

T.C.
MİLLÎ EĞİTİM BAKANLIĞI
ÖLÇME, DEĞERLENDİRME VE
SINAV HİZMETLERİ GENEL MÜDÜRLÜĞÜ



T

**AÇIK ÖĞRETİM LİSESİ / MESLEKİ AÇIK ÖĞRETİM LİSESİ /
AÇIK ÖĞRETİM İMAM HATİP LİSESİ
2019 - 2020 ÖĞRETİM YILI
1. DÖNEM SINAVI**

1.
OTURUM

07 ARALIK 2019 Saat: 09.30

<u>DERS KODU VE ADI</u>	<u>SAYFA</u>	<u>DERS KODU VE ADI</u>	<u>SAYFA</u>	<u>DERS KODU VE ADI</u>	<u>SAYFA</u>
(111) DİN KÜL. AHL. BİL. – 1	3	(421) FİZİK – 1	23	(547) TÜRK DİLİ VE EDEBİYATI – 7	45
(112) DİN KÜL. AHL. BİL. – 2	4	(425) SEÇMELİ FİZİK – 1	24	(548) TÜRK DİLİ VE EDEBİYATI – 8	47
(115) DİN KÜL. AHL. BİL. – 5	5	(432) KİMYA – 2	26	(609) SEÇMELİ MATEMATİK – 2	48
(121) FELSEFE – 1	6	(436) SEÇMELİ KİMYA – 2	27	(611) DİNLER TARİHİ – 1	50
(125) FELSEFE – 3	8	(441) BİYOLOJİ – 1	29	(621) SEÇ. TÜRK DİLİ VE EDEBİYATI – 3	51
(132) TARİH – 2	9	(443) BİYOLOJİ – 3	30	(622) SEÇ. TÜRK DİLİ VE EDEBİYATI – 4	52
(136) SEÇMELİ TARİH – 2	10	(446) SEÇMELİ BİYOLOJİ – 2	32	(713) İSLAM KÜLTÜR VE MEDENİYETİ – 1	54
(151) COĞRAFYA – 1	11	(461) SEÇMELİ EKONOMİ – 1	34	(817) AKAİD – 1	55
(155) SEÇMELİ COĞRAFYA – 1	13	(465) TEMEL DİNİ BİL. – 1	35	(819) KELAM – 1	56
(157) SEÇMELİ COĞRAFYA – 3	15	(477) SEÇMELİ İŞLETME – 2	36	(825) OSMANLI TÜRKÇESİ – 1	58
(181) İNGİLİZCE – 1	16	(479) SEÇMELİ MANTIK – 2	37	(931) SİYER – 1	59
(181) ALMANCA – 1	17	(502) İNGİLİZCE – 8	39	(974) SEÇMELİ GİRİŞİMCİLİK – 1	60
(181) FRANSIZCA – 1	18	(502) ALMANCA – 8	40	(999) MATEMATİK – 2	62
(222) SAĞLIK BİLGİSİ VE TRAFİK KÜLTÜRÜ – 2	19	(502) FRANSIZCA – 8	41		
(244) İNGİLİZCE – 5	20	(511) FIKIH – 1	41		
(244) ALMANCA – 5	21	(532) SEÇMELİ PEYGAMBERİMİZİN HAY. – 2	43		
(244) FRANSIZCA – 5	22	(544) TÜRK DİLİ VE EDEBİYATI – 4	44		

ADAYLARIN DİKKATİNE!

- Her ders için 20 soru bulunmaktadır. Bu oturumda **180** dakikalık cevaplama süreniz vardır. Sınav başladıktan sonra ilk **30** dakika tamamlanmadan dışarı çıkmayınız.
- Sınav sırasında çanta, cep telefonu, saat, kablosuz iletişim sağlayan cihazlar ve kulaklık, kolye, küpe, bilezik, yüzük, broş ve benzeri eşyalar ile her türlü elektronik ve/veya mekanik cihazları yanınızda bulundurmuyunuz. Bu araçları yanınızda bulundurmanız ve kopya çekmeye teşebbüs etmeniz hâlinde sınavınız geçersiz sayılacaktır.
- Başvuru şartlarını taşımadığınız hâlde sınava girmeniz, kopya çekmeniz, başka adayın sınav evrakını kullanmanız ve geçerli kimlik belgenizi ibraz edemediğiniz durumlarda sınavınız geçersiz sayılacaktır.
- Sınavın değerlendirilmesi aşamasında, bilgisayar ortamında yapılan kopya analizinde sistemin ikili ve/veya toplu kopya tespiti hâlinde sınavınız geçersiz sayılacaktır.
- Adaylar, sınav kurallarına ve salon görevlilerinin tüm uyarılarına uymak zorundadır. Kurallara ve uyarılara uymayan adayların sınavları geçersiz sayılacaktır.**
- Sınav başladıktan sonra adayların salon görevlileri ve birbirleri ile konuşmaları; kalem, silgi vb. şeyleri istemeleri yasaktır.
- Adaylar sınav süresince, geçerli kimlik belgelerinden birinin aslını (fotoğraflı nüfus cüzdanı, süresi geçmemiş pasaport veya sürücü belgesi) masalarının üzerinde bulundurmamak zorundadır.
- Sınav evraklarını teslim etmeyen, soru kitapçıklarının sayfalarından bir kısmını eksik teslim edenlerin sınavları geçersiz sayılacaktır.**
- Sınav başlamadan önce kitapçığın arkasındaki açıklamaları okuyunuz.

BAŞLAYINIZ DENMEDEN SORU KİTAPÇIKLARINI AÇMAYINIZ.

1. OTURUM

(111) DİN KÜL. AHL. BİL. – 1

1. Kesin, doğru ve evrensel bilginin kaynağı akıldır. Duyu organlarıyla elde edilen bilgi yanıltıcıdır. Neyin ne kadar bileneceğini akıl belirler. Akıl kökenli bilgiler aprioridir (önsel), bu nedenle değişmez ve zorunludur.

Bilginin kaynağı ile ilgili bu görüş aşağıdakilerden hangisine aittir?

- A) Deneycilere
B) Rasyonalistlere
C) Sezgicilere
D) Pozitivistlere

2. "Allah'ım, bana öğrettiklerinle beni faydalandır. Fayda verecek ilmi bana öğret ve ilmimi artır."

Bu hadiste ilim ile ilgili aşağıdakilerden hangisi vurgulanmaktadır?

- A) Paylaşımaya açık olması
B) Sonraki nesillere aktarılması
C) Güvenilir kaynaklardan alınması
D) İnsanlığın yararına olması

3. "Yaratan Rabb'inin adıyla oku! O, insanı alaktan yaratmıştır. Oku! Kalemle yazmayı öğreten, insana bilmediğini bildiren Rabb'in sonsuz kerem sahibidir."
(Alak suresi, 1-5. ayetler)

Bu ayetlerde altı çizili bölümde bilginin hangi yönüne işaret edilmektedir?

- A) Öneme
B) Kapsamına
C) Kaynağına
D) Faydasına

4. **Aşağıdakilerden hangisi Kur'an-ı Kerim'e göre bilgi kaynaklarından biri değildir?**

- A) Vahiy
B) Sezgi
C) Duyular
D) Selim akıl

5. "Peki insanlar devenin nasıl yaratıldığına, göğün nasıl yükseltildiğine, dağların nasıl dikildiğine, yeryüzünün nasıl yayıldığına bakmazlar mı?"
(Gâşiye suresi, 17-20. ayetler)

Bu ayetlerde aşağıdakilerden hangisi tavsiye edilmektedir?

- A) Sorumluluk sahibi olmak
B) Doğayı korumak
C) Adaletli olmak
D) Akıllı kullanmak

6. İman; Hz. Muhammed'in (sav.) Allah'tan getirdiği her şeyi tereddütsüz kabul etmek ve bunların doğru olduğuna gönülden inanmaktır.

Bu tanıma göre aşağıdaki unsurlardan hangisinin imanda bulunması doğru değildir?

- A) Şüphe
B) Teslimiyet
C) Tasdik
D) Güven

7. • Allah'a iman eden kişi
• Allah'a inanmayan kişi
• Allah'a inanmadığı hâlde inanmış gibi görünen kişi

Bu bilgilerde aşağıdaki kavramlardan hangisinin açıklamasına yer verilmemiştir?

- A) Mümin
B) Müşrik
C) Kâfir
D) Münafık

8. Kesin bilgilere, delillere ve bir araştırmaya dayanmaksızın, doğup büyüdüğü toplumun inançlarına herhangi bir sorgulama yapmaksızın inanmaya - - - - iman denir.

Bu tanımda boş bırakılan yere aşağıdaki kavramlardan hangisi getirilmelidir?

- A) tafsilî
B) icmalî
C) taklidi
D) tahkiki

9. "Müminler ancak o kimselerdir ki Allah anıldığı zaman kalpleri ürperir. O'nun ayetleri kendilerine okunduğu zaman bu onların imanlarını artırır. Onlar sadece Rabb'lerine güvenirlir. Onlar namazı dosdoğru kılan, kendilerine rızık olarak verdiğimiz şeylerden Allah yolunda harcayan kimselerdir. İşte onlar gerçekten müminlerdir. Onlara, Rabb'leri katında yüksek mertebeler, bağışlanma ve cömertçe verilmiş rızık vardır."
(Enfâl suresi, 2-4. ayetler)

Bu ayetlerde müminlerin aşağıdaki özelliklerinden hangisine değinilmemiştir?

- A) Allah'tan sakındıklarına
B) Yardımsever olduklarına
C) Tevekkül sahibi olduklarına
D) İstisareye önem verdiklerine

10. **Aşağıdakilerden hangisi Kur'an-ı Kerim'deki din kelimesinin anlamlarından biri değildir?**

- A) Kanun
B) Erdem
C) Ahiret
D) İtaat etmek

11. "Bu din, kendisine düşmanlık besleyenlere mutlaka üstün olmaya devam edecektir. Dine karşı duranlar ve onu terk edenler ise, ona zarar veremezler."

Bu hadiste İslam dininin hangi özelliği vurgulanmaktadır?

- A) Yüce bir din olduğu
B) İnsanları hayra yönelttiği
C) Özgür iradeye önem verdiği
D) Akıllı sahibi insanlara hitap ettiği

12. İnsanın yaratılışında bulunan, hayatı anlamlandırma çabalarına yön veren, çalışmakla elde edilemeyen ve inandırmayı da içeren, insanın doğuştan getirdiği yetenektir.

Tanımı yapılan kavram aşağıdakilerden hangisidir?

- A) Akıl
B) Fitrat
C) İbadet
D) Tevekkül

13. "Yahudiler 'Yahudi olun.' ve Hristiyanlar da 'Hristiyan olun ki, doğru yolu bulasınız.' dediler. De ki: 'Hayır! Biz, hanif olan İbrahim'in dinine uyarız. O, Allah'a ortak koşanlardan değildir.'" (Bakara suresi, 135. ayet)

Bu ayette geçen "hanif" kavramı ile aşağıdakilerden hangisi ifade edilmektedir?

- A) Tevhit
B) Sabiilik
C) Teslis
D) Şirk

14. "Din kolaylıktır. Bir kişi takatının üstünde ibadete kalkışırsa din karşısında aciz kalır. Bunun için itidalli olun, dosdoğru yolu tutun ve salih amellerden alacağınız mükâfattan ötürü sevinin. Akşam, sabah ve gecenin bir kısmında dinç olduğunuz vakitlerden yararlanarak taat ve ibadetinize devam edin."

Bu hadiste ibadetlerde gözetilmesi gereken durumlardan hangisine değinilmemiştir?

- A) Sürekliliğe
B) Dengeli olmaya
C) Aşırıya kaçmamaya
D) Gösterişten uzak olmaya

1. OTURUM

15. "Bedeviler inandık dediler. De ki, siz gerçekte iman etmediniz, ama teslim olduk deyin. İman kalplerinize yerleşmedi..."

(Hucurât suresi, 14. ayet)

Bu ayette iman ile ilgili aşağıdakilerden hangisinin gerekliliği ifade edilmektedir?

- A) Dil ile ikrar edilmesinin
B) Kalp ile tasdik edilmesinin
C) Özgür irade ile seçilmesinin
D) İbadetler ile desteklenmesinin

16. **Aşağıdakilerden hangisi İslam inanç esaslarının özelliklerinden biri değildir?**

- A) Evrenseldir.
B) Sade ve yalındır.
C) Fitrata uygundur.
D) Beşerî kaynaklıdır.

17. "En güzel isimler Allah'ındır. O'na o güzel isimleriyle dua edin ve O'nun isimleri hakkında gerçeği çarpıtanları bırakın. Onlar yaptıklarının cezasına çarptırılacaklardır."

(A'râf suresi, 180. ayet)

Bu ayette altı çizili bölüm ile ifade edilen kavram aşağıdakilerden hangisidir?

- A) Esmâ-i hüsnâ
B) Üsve-i hasene
C) Sünnetullah
D) Ruyetullah

18. I. Mahremiyetleri ihlal etmek
II. Faydalı bilgileri paylaşmak
III. İnsanlar arasında adalet ile hükmetmek
IV. Enerji kaynaklarını gereğinden fazla tüketmek

Numaralanmış tutum ve davranışlardan hangileri salih amel kapsamındadır?

- A) I ve II. B) I ve IV.
C) II ve III. D) III ve IV.

19. Allah'ın yapınız veya yapmayınız şeklinde isteklerine muhatap olan insanların yapmış olduğu iş ve davranışlara "----" denir.

Bu tanımda boş bırakılan yere aşağıdakilerden hangisi getirilmelidir?

- A) ef'al-i mükellefin
B) edille-i şer'iyye
C) sıla-i rahim
D) ehl-i tarik

20. • Yapılması, İslam dininde hoş görülme-
meyen söz ve davranışlardır.

- Bu fiilleri işleyen kınanmayı, terk eden ise övülmeyi ve sevap kazanmayı hak eder.

- Abdest alırken suyu fazla kullanmak buna örnek gösterilebilir.

Bu bilgiler aşağıdaki hükümlerden hangisine aittir?

- A) Haram B) Müfsit
C) Mekruh D) Mendub

(112) DİN KÜL. AHL. BİL. – 2

1. **Aşağıdakilerden hangisi maddi yönü olan değerlerdendir?**

- A) İnançlar B) Düşünceler
C) Gelenekler D) Mimari yapılar

2. Din; ahlak, örf, âdet, gelenek ve hukuki kuralları belirlemede temel etken olmasının yanı sıra, koymuş olduğu temel prensipler ile toplumsal ilişkileri düzenler ve şekillendirir.

Bu metnin konusu aşağıdakilerden hangisidir?

- A) Değerlerin oluşumunda dinin etkisi
B) İslam toplumunu oluşturan ana değerler
C) Örf ve âdetlerin toplum üzerindeki etkisi
D) Hukuk kurallarının insan ilişkileri üzerindeki belirleyiciliği

3. **Bir toplumda uygulanan, kuşaktan kuşağa iletilen, kültürel değer, alışkanlık ve davranışlara ne ad verilir?**

- A) Teknoloji B) Hukuk
C) Örf D) Sanat

4. **Örf ve âdetlerin oluşumunda en etkili faktör aşağıdakilerden hangisidir?**

- A) Din B) Nüfus
C) Ekonomi D) Coğrafya

5. **Aşağıdaki ayetlerin hangisi arkadaş seçimi ile ilgili bir tavsiye içermektedir?**

- A) "Size selam verildiği zaman, ondan daha güzeli ile veya aynı selamla karşılık verin..."

(Nisâ suresi, 86. ayet)

- B) "...Muhakkak ki Allah katında en değerliniz takvaca en üstün olanınızdır..."

(Hucurât suresi, 13. ayet)

- C) "Eli sıkı olma; büsbütün eli açık da olma. Sonra kınanacak, kendi kendine hayıflanacak duruma düşersen."

(İsrâ suresi, 29. ayet)

- D) "Ey iman edenler! Allah'tan korkun ve doğrularla beraber olun."

(Tevbe suresi, 119. ayet)

6. "...Kime hikmet verilmişse ona çok hayır verilmiştir..."

(Bakara suresi, 269. ayet)

Aşağıdakilerden hangisi bu ayette geçen "hikmet" kelimesinin anlamlarından biri değildir?

- A) İlim
B) Mülk
C) Akl-ı selim
D) Doğru anlayış

7. "Muhammed Allah'ın elçisidir. Beraberinde bulunanlar da kâfirlere karşı çetin, kendi aralarında merhametlidirler..."

(Fetih suresi, 29. ayet)

Bu ayette müminlerin aşağıdaki özelliklerinden hangisi vurgulanmaktadır?

- A) Cömertlik B) Feraset
C) İffet D) Şecaat

8. **İslam medeniyetinin oluşumunda aşağıdaki kültürlerden hangisinin etkisi olduğu söylenemez?**

- A) Arap B) Türk
C) Çin D) Fars

9. Ölümünden korkmadığınızı biliyorum. Fakat ölmek çare değildir. Hedefimiz ölmek değil, İslam'ı yaymaktır.

Askerlerine bu sözü söyleyerek Endülüs kapılarını Müslümanlara açan komutan aşağıdakilerden hangisidir?

- A) Gazneli Sultan Mahmut
B) Tarık bin Ziyad
C) Sultan Alparslan
D) Halid bin Velid

1. OTURUM

10. Aşağıdakilerden hangisinin İslam'ın geniş coğrafyalara yayılma sebeplerinden biri olduğu söylenemez?

- A) Arap toplumunda kabilecilik anlayışının hâkim olması
- B) Arapça, Türkçe ve Farsça eserler ile kurumsallaşması
- C) Müslüman tüccarların gittikleri coğrafyayı etkilemesi
- D) Komutanlar ve din âlimlerinin çabaları

11. İslam medeniyeti ile ilgili aşağıdakilerden hangisi söylenemez?

- A) Osmanlı dönemi, en parlak zamanlarındandır.
- B) Hz. Peygamber'in doğumu ile başlar.
- C) Temelini vahiy kültürü oluşturur.
- D) Yeniliklere ve gelişime açıktır.

12. Müslümanlar aşağıdaki ibadetlerden hangisini yerine getirmek için Kâbe'yi ziyaret ederler?

- A) Kurban
- B) Zekât
- C) Oruç
- D) Hac

13. Kudüs hangi halife zamanında fetih edilmiştir?

- A) Hz. Ebu Bekir
- B) Hz. Ömer
- C) Hz. Osman
- D) Hz. Ali

14. "Kubbetü's Sahra" aşağıdaki dönemlerden hangisinde inşa edilmiştir?

- A) Emeviler
- B) Abbasiler
- C) Selçuklular
- D) Osmanlılar

15. Bağdat'ta Selçuklu veziri adına kurulan, ilim ve kültür açısından önem taşıyan yapı aşağıdakilerden hangisidir?

- A) Salâhiyye Medresesi
- B) Nizamiye Medresesi
- C) Mansur Camii
- D) Emevi Camii

16. "Güneşin doğduğu yer", "güneş ülkesi" anlamlarına gelmektedir. Nüfusunun çoğunluğunu Türkler oluşturur. Özellikle Kur'an ilimleri, tefsir ve tasavvuf sahasında ön plana çıkan Mukâtil bin Süleyman, İbrahim bin Ethem, Bâyezid-i Bistâmî gibi âlimler burada yetişmiştir.

Hakkında bilgi verilen bölge aşağıdakilerden hangisidir?

- A) Şam
- B) Hicaz
- C) Horasan
- D) Hindistan

17. • İslam kültür medeniyetinin başta gelen örneklerindedir.
• Hindistan'da Babürlüler döneminde inşa edilmiştir.
• Dünyanın yedi harikasından biridir.

Bu bilgiler aşağıdaki eserlerden hangisine aittir?

- A) Tac Mahal
- B) Elhamra Sarayı
- C) Mostar Köprüsü
- D) Ezher Üniversitesi

18. Aşağıdakilerden hangisi Anadolu'da yetişmiş âlimlerden biri değildir?

- A) Elmalılı Hamdi Yazır
- B) Hacı Bektaş Veli
- C) İmam Rabbani
- D) Hacı Bayram Veli

19. "Dârü'l-Hikme" aşağıdaki şehirlerin hangisinde bulunmaktadır?

- A) Şam
- B) Kahire
- C) Bosna
- D) Buhara

20. Son dönem şair ve düşünürlerinden Muhammed İkbal aşağıdaki bölgelerin hangisinde yetişmiş bir âlimdir?

- A) Hindistan
- B) Balkanlar
- C) Mağrib
- D) Çin

(115) DİN KÜL. AHL. BİL. – 5

1. İnsanı diğer canlılardan ayıran özellik aşağıdakilerden hangisidir?

- A) Akıl ve irade sahibi olması
- B) Hareket edebilmesi
- C) Doğması-ölmesi
- D) Yemesi-içmesi

2. "İnsan, kendisinin başıboş bırakılacağını mı sanır?"

(Kiyâme suresi, 36. ayet)

Bu ayette insan ile ilgili aşağıdakilerden hangisi vurgulanmaktadır?

- A) Üstün bir varlık olduğu
- B) Sosyal bir varlık olduğu
- C) Bir amaç için yaratıldığı
- D) Özgür irade sahibi olduğu

3. "Ölümler başlayıp mahşerdeki yeniden diriliş arasındaki süreç" aşağıdaki kavramlardan hangisi ile ifade edilir?

- A) Ba's
- B) Sırat
- C) Mizan
- D) Berzah âlemi

4. "Sûra üflenir ve ardından Allah'ın dilediği kimseler dışında göklerdeki ve yerdeki herkes ölür. Sonra sûra bir daha üflenir, bir de bakarsın onlar kalkmış bekliyorlar."

(Zümer suresi, 68. ayet)

Bu ayette aşağıdaki meleklerden hangisinin görevine değnilmiştir?

- A) Cebrail
- B) İsrâfil
- C) Münker ve Nekir
- D) Kiramen kâtibin

5. Aşağıdakilerden hangisi cennetin isimlerinden biri değildir?

- A) Darü's selam
- B) Ravza
- C) Naim
- D) Hutame

6. • Farz-ı kifâye hükmündedir.
• Dört tekbir ile kılınır.
• Cemaat ile kılma şartı aranmaz.

Bu bilgilerin tamamı aşağıdaki namazlardan hangisi ile ilgilidir?

- A) Teravih
- B) Bayram
- C) Cenaze
- D) Cuma

7. Aşağıdakilerden hangisi kul hakkı ihlali olarak değerlendirilmez?

- A) Borç almak
- B) Yalan söylemek
- C) Çevreyi kirliletmek
- D) Karaborsacılık yapmak

8. "Hatemü'n-nebiyyîn" aşağıdaki peygamberlerden hangisi için kullanılan bir sıfattır?

- A) Hz. İsa
- B) Hz. Musa
- C) Hz. Yusuf
- D) Hz. Muhammed

9. "Müslüman, elinden ve dilinden emin olunan kimsedir."

Bu hadiste Müslümanın aşağıdaki özelliklerinden hangisi vurgulanmaktadır?

- A) Dini tebliğ etmesi
- B) Yardımsever olması
- C) Dürüst ve güvenilir olması
- D) Affedici ve merhametli olması

1. OTURUM

10. Hz. Peygamber, hicret yolculuğunda gizlendikleri Sevr Mağarası'nın önüne müşriklerin gelmesiyle endişelenen Hz. Ebu Bekir'i, "Korkma! Allah bizimle beraberdir." diyerek sakinleştirmiştir.

Bu olaydan Hz. Peygamber'in aşağıdaki özelliklerinden hangisine ulaşılamaz?

- A) Sabır B) Adalet
C) Şecaat D) Teslimiyet

11. Peygamberlerin Allah'ın kendilerine indirmiş olduğu vahiyleri insanlara eksiksiz olarak bildirmesine "- - -" denir.

Bu cümlede boş bırakılan yere aşağıdakilerden hangisi getirilmez?

- A) biat B) tebyin
C) tebliğ D) temsil

12. Hz. Peygamber'in "inanç, ibadet ve ahlak başta olmak üzere hayatın her alanında Müslümanların kendilerine örnek almaları gereken tek ve en güzel rehber" anlamındaki sıfatıdır.

Tanımlanan kavram aşağıdakilerden hangisidir?

- A) Hüsnü'l hulûk
B) Üsve-i hasene
C) Resulü's-sakaleyn
D) Muhammedü'l emîn

13. Kur'an'da yer almayan veya ayrıntılarıyla açıklanmayan konularda Hz. Peygamber'in hüküm koyma görevi vardır.

Bu görev aşağıdaki kavramlardan hangisi ile ifade edilir?

- A) Tebyin B) Temsil
C) Tebliğ D) Teşri

14. Müsned adlı hadis kitabı aşağıdaki âlimlerden hangisine aittir?

- A) Ahmed bin Hanbel
B) Malik bin Enes
C) Dârimî
D) Buhârî

15. **Aşağıdaki ayetlerden hangisi Hz. Peygamber'e itaat etmenin önemi ne örnek oluşturmaz?**

- A) "Biz her bir peygamberi Allah'ın izniyle ancak kendisine itaat edilmesi için gönderdik..."
(Nisâ suresi, 64. ayet)
- B) "Ey Peygamber de ki: 'Eğer Allah'ı seviyorsanız bana uyun ki Allah da sizi sevsin ve günahlarınızı bağışlasın. Çünkü Allah çok bağışlayandır, çok merhamet edendir.'
(Â-i İmrân suresi, 31. ayet)
- C) "Kim peygambere itaat ederse Allah'a itaat etmiş olur. Kim yüz çevirirse bilsin ki biz seni onlara bekçi göndermedik."
(Nisâ suresi, 80. ayet)
- D) "De ki: 'Ben de ancak sizin gibi bir insanım. Ancak bana, 'Sizin ilâhınız ancak bir tek ilâhtır.' diye vahyolunuyor..."
(Kehf suresi, 110. ayet)

16. **Aşağıdakilerden hangisi Hz. Peygamber'e duyulan sevgi ve saygının kültürümüzdeki yansımalarına örnek oluşturmaz?**

- A) Siyer kitaplarının yazılması
B) Mevlit kandilinin kutlanması
C) Kur'an-ı Kerim'in ezberlenmesi
D) Muhammed isminin çocuklara verilmesi

17. I. Hz. Fatıma
II. Hz. Halime
III. Hz. Hasan
IV. Hz. Ömer

Numaralanmış isimlerden hangileri Hz. Peygamber'in ehl-i beytindedir?

- A) I ve III. B) I ve IV.
C) II ve III. D) II ve IV.

18. Hz. Muhammed'in (sav.) soyu, kızı Hz. Fatıma'nın çocukları Hz. Hasan ve Hz. Hüseyin ile devam etmiştir. Hz. Hasan'ın soyundan gelenlere - - - -, Hz. Hüseyin'in soyundan gelenlere - - - - denmiş ve onlara büyük bir sevgi ve saygı gösterilmiştir.

Bu metinde boş bırakılan yerlere sırasıyla aşağıdakilerden hangisi getirilmelidir?

- A) sahabe - tabiin
B) şerif - seyyid
C) muhadram - mevali
D) ehli beyt - ehli suffice

19. İnsanların, Allah'ın vermiş olduğu akıl, düşünme, öğrenme, hatırlama gibi yetenekleri kullanarak doğru yolu bulmasıdır.

Bu tanım aşağıdaki kavramlardan hangisine aittir?

- A) Hidayet B) Tevekkül
C) İslam D) İtaat

20. **Hz. Peygamber'in "Allah'ı görüyor-muş gibi ibadet etmendir. Sen O'nu görmesen de O seni görür." diyerek açıkladığı kavram aşağıdakilerden hangisidir?**

- A) Din B) Cihat
C) Amel D) İhsan

(121) FELSEFE – 1

1. "İnsan nedir?, Varlık nedir?, İyi yaşam nedir?" gibi sorular soran alan aşağıdakilerden hangisidir?

- A) Matematik B) Felsefe
C) Coğrafya D) Fizik

2. J. J. Rousseau "Yeşillikler ve ormanlıklar bir aşık için mutluluk kaynağı sayılırken, bir avcı için avcılık yapılacak yer olarak görülür." der. İşte bunun gibi filozoflar da aynı gerçeği kendi bakış açılarına göre yorumlarlar.

Verilen metinde felsefi bilginin aşağıdaki özelliklerinden hangisi vurgulanmıştır?

- A) Sistemli olma
B) Eleştirel olma
C) Öznel olma
D) Meraka dayanma

3. "Sürekli hakikati arama yolunda olan, alçakgönüllü ve kendi bilgisizliğiyle yüzleşebilen bir kişi" aşağıdaki ifadelerden hangisini söylerse kendisiyle çelişmiş olur?

- A) Her konu hakkında doğru bilgiye sahibim.
B) Bilmemek ayıp değil öğrenmemek ayıptır.
C) Bilmediğim bir konuda fikir belirtmem.
D) Bin bilsen de bir bilene sor.

1. OTURUM

4. Arapçadan dilimize geçen felsefe kelimesi, Yunanca Philosophia sözcüğünden gelmektedir. Philosophia ise philia (fili: seviyorum, peşinden koşuyorum) ve sophia (sofya: bilgi, bilgelik, hikmet) sözcüklerinden oluşan bir kelimedir. Yani felsefe, bilgelik sevgisi anlamına gelmektedir.

Bu bilgiden hareketle felsefe ile ilgili aşağıdakilerden hangisi doğru değildir?

- A) Bilge olmaya varmak için sevgiye dayanan bir çabadır.
B) Bilgiyi sevmek, hakikati bulmak istemek demektir.
C) Var olan her şey hakkında tam, kesin ve evrensel bir bilgiye sahip olmaktır.
D) Hikmet arayışında olmayı ifade eder.

5. **Aşağıdakilerden hangisi filozofların özelliklerinden değildir?**

- A) Sürekli hakikati ararlar.
B) Kendilerine sunulan bilgilerin doğruluğunu sorgulamazlar.
C) Kendi doğrularını savunurlar.
D) İnsanlığa ait sorunlarda özgün fikirler ortaya koyarlar.

6. **Felsefenin ortaya çıkışından önce insanoğlunun evren, doğa ve kendisi hakkındaki problemlere çözüm aradığı kaynaklar aşağıdakilerden hangisidir?**

- A) Dini-mitolojik (efsanevi)
B) Dini-bilimsel
C) Mitolojik (efsanevi)-bilimsel
D) Sanatsal-mitolojik (efsanevi)

7. Bir filozof düşüncelerini sistemli bir şekilde sunarken öznel bir yaklaşımla hareket etse de genele yönelmek durumundadır. Çünkü insan yaşantısına giren her şey felsefeye konu olabilir. Bu nedenle felsefi düşünce varlığı tümüyle ele almalı ve evrensel ulaşmaya çalışmalıdır.

Parçada felsefi düşüncenin aşağıdaki özelliklerinden hangisi üzerinde durulmuştur?

- A) Rasyonel olma
B) Evrensel olma
C) Yığılımlı ilerleme
D) Sistemli olma

8. **Aşağıdakilerden hangisi akıl yürütme yollarından biri değildir?**

- A) Tümevarım B) Tümdengelim
C) Analoji D) Yeter-sebep

9. Hakan ile Ceren akıllı telefonların insan zekası üzerindeki etkisi hakkında tartışmaktadır. Hakan tartışmanın başında akıllı telefonların insan zekasını olumsuz yönde etkilediğini ve bu yüzden insanların teknolojiye uzak durması gerektiğini öne sürer. Ancak tartışmanın sonunda Hakan başlangıçta savunduğu düşüncesiyle çelişerek akıllı telefonların hem insanlığın hem de insan zekasının gelişiminde olumlu bir etkiye sahip olduğunu savunur.

Verilen açıklama aşağıdakilerden hangisine uygun bir örnektir?

- A) Apaçıklık B) Çelişiklik
C) Uygunluk D) Gerçeklik

10. I. Tutarlılık
II. Kesinlik
III. Temellendirme

Verilenlerden hangileri felsefi düşüncede olması gereken niteliklerdendir?

- A) Yalnız II. B) I ve II.
C) I ve III. D) II ve III.

11. Felsefe soruları kavramın ne olduğunu sorgulamaya yönelik olarak filozofun kendisine yönelttiği ve ele alınan konunun ayrıntılarına inmeyi sağlayan soru türleridir.

Buna göre;

- I. Erdem nedir?
II. Bir haftada kaç gün vardır?
III. İyi nedir?
IV. Türkiye'nin başkenti neresidir?

sorularından hangileri felsefe sorusu olarak sormaz?

- A) I ve III. B) I ve IV.
C) II ve III. D) II ve IV.

12.

I	Analoji	Soyut varlıkların nedenlerinin araştırılmasıdır.
II	Çelişiklik	Bir ifadenin aynı anda hem doğru hem de yanlış olmasıdır.
III	Önerme	Doğru veya yanlış yargı bildiren ifadelerdir.
IV	Gerçeklik	İnsan zihninden bağımsız olarak var olan her şeydir.

Tablodaki numaralanmış kavram ve tanım eşleştirmelerinden hangisi yanlıştır?

- A) I. B) II. C) III. D) IV.

13. Felsefede "Nedir?" sorusu ile her konu üzerinde sorgulama yapılır ve sürekli bilgi arayışı sürdürülür. Bir konu hakkında doğru bilgiye ulaşıldığı düşünülse bile bununla yetinilmez ve sorgulama sürekli devam eder.

Parçadan hareketle aşağıdakilerden hangisine ulaşılabilir?

- A) Sorgulama yalnızca belirli konular üzerinde yapılır.
B) Doğru bilgiye ulaşıldığında yeni sorular sorulmaz.
C) Felsefe sürekli bir sorgulama etkinliğidir.
D) Felsefede önemli olan kesin sonuçta ulaşmaktır.

14. Filozoflar kendilerinden önceki düşünürlerin fikirlerine, kimi zaman bir şeyler ekleyerek veya onlardan yararlanarak kimi zaman da onları eleştirerek yeni ve farklı çözümlere ulaşırlar. Felsefede tek bir doğru olmadığı için hem yeni fikirler ortaya çıkar hem de düşüncelerin çoğalması sağlanır.

Parçadan hareketle aşağıdakilerden hangisine ulaşılabilir?

- A) Her filozof yalnızca kendi sistemiyle ilgilenir.
B) Felsefede tek ve kesin bir doğru yoktur.
C) Filozoflar yeni fikirler üretmekten çok eski fikirleri savunurlar.
D) Felsefi düşünce farklı çözümlere kapalıdır.

15. İnsan doğası gereği evrenin yapısı, hayatın anlamı ve edinmiş olduğu bilgilerin doğruluk değeri gibi pek çok konuyu merak eder. Bu merakı sayesinde insanoğlu, sorularına yanıtlar bulmakta ve bulmuş olduğu yanıtlardan hareketle hem bireysel yaşantısını hem de toplumsal yaşantıyı şekillendirmeye ve merakını gidermeye çalışır.

Verilen parçadan hareketle insanoğlunun merakının aşağıdakilerden hangisini sağladığına ulaşılabilir?

- A) İnsan haklarının dönüşümünü gerçekleştirilmeyi
B) Kavramların açığa kavuşturulmasını
C) İnsanlar arası iletişimin olanaklılığını
D) Bireysel ve toplumsal yaşamı şekillendirmeyi

1. OTURUM

16. Gündelik yaşantımızda bazı kavramları birbirinin yerine kullanırız ve bunun çoğu zaman farkında bile olmayız. Örneğin bir resim gördüğümüzde çok "iyi" bir resim ya da yolda yere çöp atan birini gördüğümüzde çok "çirkin" bir davranış gibi yargılarda bulunuruz. Ancak cümleler dikkatli bir şekilde incelendiğinde "iyi" ve "çirkin" kavramlarının yanlış olarak kullanıldığını fark ederiz.

Verilen parçada aşağıdakilerden hangisine vurgu yapılmaktadır?

- A) Kavramların yanlış kullanılmasına
- B) İnsanın evrendeki yerine
- C) Doğada bir düzenin olduğuna
- D) Sorumluluğun özgürlükten ayrı düşünülemezliğine

17. Dili kullanan insan hem "şimdi ve burada" yaşar hem de bu yaşamasını toplumsal-kültürel-tarihsel bir varlık oluşuna borçlu olduğunu anlar. İşte böyle bir yapının temel taşıyıcısı da onun düşünmesi ve dilidir; düşünce ve dil varlığı oluşudur. Çift anlamlı bir terim olarak tarih birinci anlamda "konuşan" insanla, ikinci anlamda ise "yazan" insanla birlikte başlar. Bu bize tarihin dil ile birlikteliğini açık bir biçimde göstermektedir.

Bu parçada aşağıdaki alanlardan hangilerinin ilişkisi üzerinde durulmuştur?

- A) Dil-tarih
- B) Matematik-dil
- C) Tarih-psikoloji
- D) Psikoloji-dil

18. **Aşağıdakilerden hangisi "dil kavramlaştırma işlevi"yle ilgili bir ifadedir?**

- A) Dil, kültürün aktarıcısı durumundadır.
- B) Dil, insanların birbiriyle iletişim kurmasını olanaklı kılar.
- C) Dil, düşüncelerimizi başkalarına iletmemizi sağlar.
- D) Dil sayesinde dış dünyayı algılayıp kavramlara dönüştürebiliriz.

19. **Felsefeyi "bir eleştirme ve tespit etme faaliyeti" olarak tanımlayan düşünür aşağıdakilerden hangisidir?**

- A) Nurettin Topçu
- B) Takiyettin Mengüşoğlu
- C) Hilmi Ziya Ülken
- D) Necati Öner

20. I. Kesin cevabı olmalıdır.
II. Sorgulamaya götürmelidir.
III. Bakış açımızı genişletmelidir.

Yukarıdakilerden hangileri felsefi soruyla ilgili doğru bilgilerdir?

- A) Yalnız I.
- B) I ve II.
- C) I ve III.
- D) II ve III.

(125) FELSEFE – 3

1. **Milet'te yaşamış ve bazı kaynaklara göre tarihin ilk filozofu olarak kabul edilen Antik Yunan filozofu aşağıdakilerden hangisidir?**

- A) İbn-i Rüşd
- B) Gazali
- C) Thales
- D) Farabi

2. Sokrates ahlak üzerine kapsamlı fikirler ortaya koymuş ve öne sürdüğü fikirleriyle de birçok filozofu etkilemiştir. Ona göre bilgi, ahlaklı ve erdemli olmayı gerektirdiği için ancak bilgisiz bir insan ahlaktan yoksun davranışlar sergiler.

Parçadan hareketle Sokrates'le ilgili aşağıdakilerden hangisi doğru değildir?

- A) Fikirleriyle felsefe tarihinde önemli bir etkiye sahiptir.
- B) Ona göre insanın ahlak dışı davranışı bilgisizliğindedir.
- C) Ahlak üzerine önemli fikirler ortaya koymuştur.
- D) Sokrates için ahlaklı ve erdemli olmak yalnızca inançla ilgilidir.

3. Empedokles'e göre arkhe; su, hava, ateş ve toprak olmak üzere dört ana maddeden oluşur. Bu ana maddeleri harekete geçirici dış güçler vardır. Bu dış güçlerden sevgi birleştirici, nefret ise ayırıcı ilkedir.

Buna göre aşağıdakilerden hangisi Empedokles'in öne sürmüştüğü dış güçlerdir?

- A) Sevgi ve nefret
- B) Birlik ve çokluk
- C) Doğum ve ölüm
- D) Yoğunlaşma ve soğuma

4. **Felsefe tarihinin ilk sistemli filozofu olan ve gerçekliğe dair görüşlerini "idealar kuramı" ile açıklayan düşünür aşağıdakilerden hangisidir?**

- A) Gazali
- B) Thales
- C) Platon
- D) Dilthey

5. Platon'a göre devlet insanların "iyi, güzel ve doğru" yaşamaları için ortaya çıkmıştır. Ona göre devletin böyle bir amacı gerçekleştirebilmesi için yöneticilerinin iyi ideasının bilgisine sahip olması gerekir. İyi ideasının bilgisine ulaşmayı hedefleyen ruhsal yapı ise yalnızca filozoflarda vardır.

Parçadan hareketle Platon'a göre devleti yönetecek olanlar aşağıdakilerden hangisi olmalıdır?

- A) Çiftçiler
- B) Askerler
- C) Din adamları
- D) Filozoflar

6. Hasan annesine doğum günü hediyesi olarak kendi elleriyle alçıdan bir vazo yapmak ister. Vazo yapmak için gerekli malzemeleri alır ve vazoyu yapmaya başlar. Vazonun yapım süreci tamamlandıktan sonra annesine doğum günü hediyesi olarak verir.

Bu örneğe göre aşağıdakilerden hangisi Aristoteles'in varlığın meydana gelmesi için belirttiği "ereksel (amaçsal) neden"dir?

- A) Vazonun yapılmış olduğu alçı
- B) Alçının süreç sonunda vazo görünümüne alması
- C) Vazonun doğum günü hediyesi olarak yapılması
- D) Vazonun yapılmasını sağlayan kişi

7. **Aşağıdaki sorulardan hangisi "Tanrı'nın varlığını kanıtlama problemi"yle ilgilidir?**

- A) İnsan sadece bedenden mi yoksa beden ve ruhtan mı oluşur?
- B) Evren sonsuz mudur?
- C) Kavramların kendi başına gerçeklikleri var mıdır?
- D) Tanrı'nın varlığı kanıtlanabilir mi?

8. **Aşağıdakilerden hangisi Hristiyan felsefesinin genel özelliklerinden değildir?**

- A) Oluşturulan metinlerle dini otoriteye karşı gelinmiştir.
- B) Akıl ve inanç tartışmaları ön plana çıkmıştır.
- C) Antik Yunan felsefesinden etkilenilmiştir.
- D) Din merkezli düşünce görülmüştür.

1. OTURUM

9. Augustinus'a göre insan bu dünyada sadece bedenini bırakır ve ruhuyla öte dünyaya gider. Bu nedenle ona göre ruh ölümsüzdür.
- Augustinus'un bu görüşü aşağıdakilerden hangisi ile ilgilidir?**
- A) Tanrı varlığının kanıtı problemi
B) Kötülük problemi
C) Ruhun ölümsüzlüğü problemi
D) Tümmeller problemi
10. **Aşağıdakilerden hangisi İslam felsefesinin genel özelliklerinden değildir?**
- A) Antik Yunan felsefesinden etkilenilmiştir.
B) Batı felsefesinden tamamen bağımsızdır.
C) Çeviri faaliyetleri yapılmıştır.
D) Akıl, iman ve inanç gibi konular tartışılmıştır.
11. Cebriye kalamcılarının göre insan özgür değildir. Bütün davranışların ortaya çıkmasını sağlayan, evreni ve her şeyi yaratan Allah'tır. Bu nedenle insan hiçbir şeyi kendi iradesiyle gerçekleştiremez. Dolayısıyla insan davranışlarından sorumlu değildir.
- Parçadan hareketle aşağıdakilerden hangisi Cebriye kalamcıları tarafından söylenmiş olamaz?**
- A) İnsan, eylemlerinde özgür değildir.
B) İnsan, iradesiyle seçimlerde bulunamaz.
C) Evrende var olan her şeyi Allah yaratmıştır.
D) İnsan, davranışlarının sonucundan sorumludur.
12. **Aşağıdakilerden hangisi Farabi'nin devletle ilgili görüşlerinin yer aldığı eseridir?**
- A) 1984
B) El-Medinetül Fazıla
C) Ütopya
D) Güneş Ülkesi
13. İbn-i Haldun'a göre devlet, toplumu iç ve dış baskılara karşı korumalı ve devleti yönetenler toplumun faydası için hareket etmelidir. Filozof, devletin hüküm süresini doğan, gelişen ve ölen bir organizmaya benzetir.
- Buna göre aşağıdakilerden hangisine ulaşamaz?**
- A) Devlet toplumu iç ve dış tehlikelere karşı korur.
B) Devleti yönetenler toplumun faydasına göre hareket etmelidir.
C) Devlet tıpkı organizma gibi doğar, gelişir ve ölür.
D) Toplumsal yaşamın tek amacı ekonomik zenginliktir.
14. Gazali'ye göre insan, duyu ve aklıyla bir takım bilgilere ulaşabilir. Ancak kesin bilgiye ulaşmada duyu ve akıl yetersiz kalır. Bu noktada insan, kesin bilgiye sezgiyle ulaşır.
- Parçaya göre Gazali hangi felsefi problemle ilgili görüşlerini belirtmiştir?**
- A) Varlık
B) Bilgi
C) Değer
D) Ahlak
15. **Aşağıdakilerden hangisi modern düşüncüyü skolastik düşünceden ayıran özelliklerden biri değildir?**
- A) Din felsefeye egemendir.
B) Doğa, deney ve akılla açıklanmaktadır.
C) Bilim felsefenin kılavuzudur.
D) Birey ön planda yer almaktadır.
16. İlk olarak İtalya'da ortaya çıkan ve insanı dogmatik etkilerden uzaklaştıran bir bakış açısidir. Bu aynı zamanda insanın ve evrenin yeniden yorumlanması demektir. Bu düşüncede insan merkeze alınmakta ve akıl ön plana çıkmaktadır.
- Parçada sözü edilen kavram aşağıdakilerden hangisidir?**
- A) Bilimsel yöntem
B) Hukuk felsefesi
C) Hümanizm (İnsancılık)
D) Eşitlik
17. **Aşağıdaki yazar eser eşleştirmelerinden hangisi yanlıştır?**
- A) Platon - Devlet
B) Sokrates - 1984
C) T. More - Ütopya
D) Huxley - Cesur Yeni Dünya
18. **12. yüzyıl İslam filozofu olan İbn-i Bacce'den etkilenen ve güneş merkezli evren görüşünü ortaya koyan düşünür aşağıdakilerden hangisidir?**
- A) Aristoteles
B) Popper
C) Augustinus
D) Kopernik
19. Hobbes'a göre insanlar doğal durumda eşittir ve herkesin her şey üzerinde hakkı vardır. Ancak çıkarların çatışmasıyla güvenlik sorunları ortaya çıkmakta ve herkes herkesle savaşmaktadır. Bu savaş ortamından kurtulmak için insanlar zorunlu olarak haklarını bir sınıfa devrederek yapay olan devlet sistemine geçmişlerdir. Devlet mutlak güçtür ve bu gücün kaynağı insanların kendi aralarında yaptığı toplumsal sözleşmedir.
- Metinden hareketle aşağıdakilerden hangisine ulaşamaz?**
- A) Çıkar çatışmaları güvenlik sorunları ortaya çıkarmaktadır.
B) Hakların korunması devletin ortaya çıkmasında temel etkidir.
C) Devletin yönetme gücünün kaynağı gelenek ve göreneklerdir.
D) Doğal durumda bütün insanlar eşittir ve her şey üzerinde hakları vardır.
20. **Hareket ve yer çekim yasalarını keşfeden İngiliz bilim insanı aşağıdakilerden hangisidir?**
- A) Newton
B) İbn-i Sina
C) Farabi
D) Thales

(132) TARİH – 2

1. **Türk adı Çin kaynaklarında hangi anlamda kullanılmıştır?**
- A) Türemek
B) İnsan
C) Miğfer
D) Törel
2. **Orta Asya kültürleri içerisinde yayılma alanı en geniş olan kültür aşağıdakilerden hangisidir?**
- A) Andronova Kültürü
B) Karasuk Kültürü
C) Tagar Kültürü
D) Anav Kültürü

1. OTURUM

3. Çinliler hangi Türk topluluğunun akınlarına karşı Çin Seddi'ni inşa etmişlerdir?

- A) Karlukların B) Avarların
C) Kırgızların D) Hunların

4. Aşağıdaki devletlerden hangisi Bumin Kağan tarafından kurulmuştur?

- A) Asya Hun Devleti
B) I. Kök Türk Devleti
C) Hazar Devleti
D) İtil Bulgar Devleti

5. Aşağıdakilerden hangisi II. Kök Türk Devleti'nin yıkılmasında etkili olmamıştır?

- A) Avarlar B) Karluklar
C) Basmiller D) Uyğurlar

6. Aşağıdakilerden hangisi Orta Asya'da kurulan ilk Türk devletlerinde toplumun sosyal yapısını oluşturan unsurlardan biri değildir?

- A) Oğuş B) Urug
C) Budun D) Kurultay

7. Büyük Selçuklu Devleti ve Osmanlı Devleti hangi Türk boyu tarafından kurulmuştur?

- A) Karluklar B) Kırgızlar
C) Oğuzlar D) Avarlar

8. Aşağıdakilerden hangisi İslam öncesi Arap Yarımadası'nda bulunan devletlerden biridir?

- A) Türgişler B) Gassaniler
C) Gazneliler D) Karahanlılar

9. İslamiyetin ortaya çıktığı dönemde az nüfuslu Arap şehirlerinde yerleşik hayat tarzını sürdüren insanlara ne ad verilir?

- A) Hadariler B) Bedeviler
C) Mevaliler D) Köleler

10. Aşağıdakilerden hangisi Hz. Muhammed Dönemi gelişmelerinden değildir?

- A) Yermük Savaşı
B) Hendek Savaşı
C) Bedir Savaşı
D) Uhud Savaşı

11. Müslümanlarla Bizans arasında yapılan ilk savaş aşağıdakilerden hangisidir?

- A) Ecnâdeyn Savaşı
B) Kadisiye Savaşı
C) Mute Savaşı
D) Puvatya Savaşı

12. Kur'an-ı Kerim aşağıdaki halifelerden hangisi döneminde kitap hâline getirilmiştir?

- A) Hz. Ali
B) Hz. Ömer
C) Hz. Osman
D) Hz. Ebu Bekir

13. İlk İslam parası aşağıdaki devletlerden hangisi döneminde bastırılmıştır?

- A) Abbasiler B) Emeviler
C) Eyyubiler D) Memlûkler

14. Aşağıdakilerden hangisi Mısır'da kurulan ilk Müslüman Türk devletlerinden biri değildir?

- A) Tolunoğulları B) İhşidiler
C) Eyyubiler D) Gazneliler

15. Batı'da Avicenna, İslam âleminde ise Şeyh el-Reis adıyla anılmış olan Müslüman ilim adamı aşağıdakilerden hangisidir?

- A) İbn-i Sina B) İbn-i Rüşd
C) Farabi D) İmam Gazali

16. Orta Asya'daki ilk Müslüman Türk devleti aşağıdakilerden hangisidir?

- A) Gazneliler B) Memlûkler
C) Karahanlılar D) Abbasiler

17. Hindistan üzerine 17 sefer yaparak İslamiyet'in Hindistan'da yayılmasına katkı sağlayan Türk hükümdarı aşağıdakilerden hangisidir?

- A) Satuk Buğra Han
B) Yusuf Kadir Han
C) Gazneli Mahmut
D) Tuğrul Bey

18. Aşağıdaki savaşlardan hangisi Büyük Selçuklu Devleti ile Gazneliler arasında yapılmıştır?

- A) Malazgirt Savaşı
B) Dandanakan Savaşı
C) Pasinler Savaşı
D) Katvan Savaşı

19. Alp Arslan ve Melikşah aşağıdaki devletlerden hangisinin hükümdarlarıdır?

- A) Büyük Selçuklu Devleti
B) Karahanlılar Devleti
C) Gazneliler Devleti
D) Tolunoğulları Devleti

20. Büyük Selçuklu Devleti'nde posta ve haberleşmeden sorumlu olan divan aşağıdakilerden hangisidir?

- A) Divan-ı İnşa B) Divan-ı İstifa
C) Divan-ı İşraf D) Divan-ı Berid

(136) SEÇMELİ TARİH – 2

1. Avusturya-Macaristan İmparatorluğu, Fransız İhtilali'nin getirdiği fikirlerden etkilenerek parçalanmamak için aşağıdaki hangi politikayla ülkede otoriteyi artırarak milliyetçi ve liberal hareketleri bastırma yoluna gitmiştir?

- A) Merkantilizm Politikası
B) Devletçilik Politikası
C) Metternich Politikası
D) Denge Politikası

2. İnsan Hakları ve Yurttaşlık Bildirgesi 1789 yılında aşağıdaki ülkelerden hangisinde ilan edilmiştir?

- A) İngiltere B) Almanya
C) Rusya D) Fransa

3. Aşağıdakilerden hangisi Fransız İhtilali'nin Osmanlı Devleti'nde yaşayan gayrimüslim halk üzerindeki etkisine örnek olarak gösterilebilir?

- A) Yunan Ayaklanması
B) Celali İsyanları
C) 31 Mart Olayı
D) Bâbüâli Baskını

4. Aşağıdakilerden hangisi 1830 İhtilallerinin etkisiyle Fransa ve İngiltere'de siyasal yaşamda bağımsız bir güç olarak ortaya çıkmıştır?

- A) İşçi sınıfı B) Soylu sınıfı
C) Asker sınıfı D) Burjuva sınıfı

1. OTURUM

5. Aşağıdakilerden hangisi kapitalizm ideolojisinin ortaya çıkma nedenlerinden biri değildir?

- A) Bankacılığın gelişmesi
- B) Uluslararası ticaretin artması
- C) Burjuva sınıfının yeni bir düzen istemesi
- D) Toplumda ekonomik eşitliği sağlama düşüncesi

6. Aşağıdaki askeri okullardan hangisi II. Mahmut Dönemi'nde açılmıştır?

- A) Askerî Baytar Mektebi
- B) Mekteb-i Harbiye
- C) Hendesehane
- D) Mühendishane-i Berri-i Hümayun

7. Osmanlı Devleti'nde aşağıdaki padişahlardan hangisinin döneminde okullaşma tüm ülkeye yayılmıştır?

- A) III. Selim
- B) II. Mahmut
- C) II. Abdülhamit
- D) III. Ahmet

8. Tanzimat Fermanı ile ülkenin problemlerini dile getirdikten sonra memleketin iyi idaresi için de yeni kanunların yapılmasının gerekli olduğunu belirten Osmanlı devlet adamı aşağıdakilerden hangisidir?

- A) Mustafa Reşit Paşa
- B) Alemdar Mustafa Paşa
- C) Ahmet Cevdet Paşa
- D) Hüseyin Avni Paşa

9. Aşağıdaki padişahlardan hangisinin döneminde Osmanlı Devleti sayısal bakımdan İngiltere'den sonra dünyanın ikinci büyük donanmasına sahip olmuştur?

- A) Abdülmecid
- B) Abdülaziz
- C) II. Mahmut
- D) IV. Murat

10. Aşağıdakilerden hangisi Osmanlı Devleti'ndeki gayrimüslimlerin devlet okullarında okuyarak memur ve asker olmalarının yolunu açmıştır?

- A) Sened-i İttifak
- B) Islahat Fermanı
- C) Mürur Tezkiresi
- D) Kanun-ı Cedit

11. Aşağıdakilerden hangisi klasik üretimin özelliklerinden biridir?

- A) Üretimde el emeğinin ön planda olması.
- B) İş bölümünde modern eğitimden faydalanılması.
- C) Çalışan sayısının binlerle ifade edilmesi.
- D) Üretimde gelişmiş teknolojilerin kullanılması.

12. Aşağıdakilerden hangisi Osmanlı Devleti'nde sanayiye güçlendirmeye yönelik tedbirlerden biri değildir?

- A) Esnaf şirketlerinin kurulması
- B) Islah-ı Sanayi Komisyonu oluşturulması
- C) Demir yolu projelerinin hayata geçirilmesi
- D) Müsadere usulünün kaldırılması

13. Osmanlı Devleti Balta Limanı Ticaret Antlaşması'nı aşağıdaki hangi devlet ile imzalamıştır?

- A) Rusya
- B) Fransa
- C) İngiltere
- D) Japonya

14. İttihat ve Terakki yönetimini korumacı millî ekonomi düşüncesi ile etkileyen Alman iktisatçı aşağıdakilerden hangisidir?

- A) Frederich List
- B) Giuseppe Donizetti
- C) Thomas Hobbes
- D) Max Webber

15. "Muharrem Kararnamesi" aşağıdaki hangi Osmanlı padişahı döneminde ilan edilmiştir?

- A) II. Mahmut
- B) Abdülaziz
- C) Abdülmecid
- D) II. Abdülhamit

16. Aşağıdaki devletlerden hangisi "Her millete bir devlet" anlayışıyla çevresindeki çok uluslu devletleri parçalayıp hâkimiyet alanını genişletmek istemiştir?

- A) Rusya
- B) Fransa
- C) Avusturya-Macaristan
- D) Osmanlı

17. Aşağıdakilerden hangisi Rusların Panislist hareketleri desteklemelerinin amaçlarından biri değildir?

- A) Türkleri Balkanlar'dan atmak
- B) Boğazları ele geçirmek
- C) Kafkas halklarını özgürleştirmek
- D) Sıcak denizlere inmek

18. Aşağıdaki kavramlardan hangisini İngilizler, "halkın düşüncesi" anlamında, Fransızlar ise "toplumun tavrı" anlamında kullanmışlardır?

- A) Diplomasi
- B) Kamuoyu
- C) Himaye
- D) Kültür

19. Aşağıdakilerden hangisi Osmanlı Devleti'nde aydın sınıfının toplum ve devlet üzerindeki etkinliğini arttıran gelişmelerden biridir?

- A) Matbaanın yaygınlaşması ve Türk basınının gelişmesi
- B) Kapitülasyonların sürekli hale getirilmesi
- C) Demir yolu ve sanayi yatırımlarının çoğalması
- D) Sağlık koşullarının iyileşmesi sonucu nüfusun artması

20. Sanayileşmenin bir sonucu olarak, kültürel varlıkların kâr etme amacıyla standartlaştırılmış mallara dönüştürülmesi ile aşağıdaki hangi kavram ortaya çıkmıştır?

- A) Endüstri devrimi
- B) Klasik üretim
- C) Yüksek kültür
- D) Kültür endüstrisi

(151) COĞRAFYA – 1

1. Doğa ve insan; yükseltiyi, alana ve zamana göre sürekli etkileşim hâlinindedir.

Aşağıdakilerin hangisinde bu durum gözlenmektedir?

- A) Antalya'da tişört giyilirken Erzurum'da kazak giyilmesi
- B) Yükseltinin artmasıyla bitkilerin yapraklarının incelmeleri
- C) Belirli bir yükseltiden sonra bitkilerin yetişmemesi
- D) Bitki örtüsünün zayıf olduğu sahalarda erozyonun şiddetlenmesi

2. Aşağıdakilerden hangisinin dağılışı ve sonuçları beşeri ve ekonomik coğrafyanın inceleme alanına girmez?

- A) Tarım
- B) Nüfus
- C) Turizm
- D) İklim

1. OTURUM

3. Aşağıdakilerden hangisi Dünya'nın şeklinin geoid olduğunun kanıtıdır?

- A) Güneş ışınlarının geliş açısının mevsimlere göre değişmesi
- B) Karaların yeryüzüne dağılışı
- C) Meridyen boyları
- D) Ekvatorun en büyük paralel dairesi olması

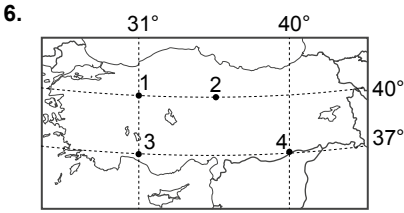
4. Güneş ışınlarının geliş açısı ekvator-dan kutuplara gidildikçe küçülmektedir.

Bu durumun temel sebebi Dünya'nın aşağıdaki özelliklerinden hangisidir?

- A) Kutuplardan basıklığı
- B) Dünyanın şekli
- C) Yıllık hareketi
- D) Yörünge düzlemi

5. Aşağıdakilerden hangisi paralellerin özelliklerinden biri değildir?

- A) Toplam 180 adet olduğu varsayılır.
- B) Çevre uzunlukları birbirinden farklıdır.
- C) Kutup noktalarında birleşir.
- D) Birbirleri ile kesişmezler.



Hangi noktalar arasında yerel saat farkı yoktur?

- A) 1 ve 2
- B) 1 ve 3
- C) 3 ve 4
- D) 2 ve 4

7. Haritada Türkiye ve yakın çevresine ait coğrafi bilgiler gösterilmektedir.

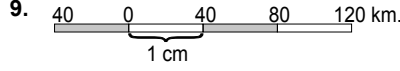


Buna göre ülkemizin coğrafi konumuyla ilgili aşağıda yapılan çıkarımlardan hangisi doğrudur?

- A) Başlangıç meridyeninin batısındadır.
- B) Güney Kutbuna daha yakındır.
- C) Ekvatorun güneyindedir.
- D) Üç tarafı denizlerle çevrilidir.

8. Haritanın ölçeğinden yararlanarak aşağıdakilerden hangisi hakkında bilgi sahibi olabiliriz?

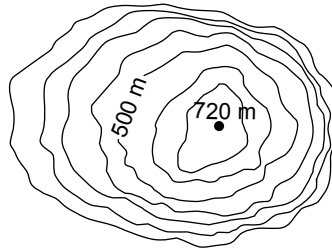
- A) Bir akarsuyun debi miktarı
- B) Harita üzerinde iki nokta arasındaki mesafe
- C) Dağların uzanış doğrultusu
- D) İl ve ilçe sınırları



Verilen çizik ölçeğin kesir ölçek şekliyle ifadesi aşağıdakilerden hangisidir?

- A) 1/2 000 000
- B) 1/4 000 000
- C) 1/6 000 000
- D) 1/8 000 000

10.



Eş yükselti eğrileri ile gösterilen yeryüzü şekli aşağıdakilerden hangisidir?

- A) Dağ
- B) Vadi
- C) Falez
- D) Delta

11. Aşağıdakilerden hangisi atmosferin özelliklerinden değildir?

- A) Yeryüzünde maden çeşitliliğini sağlar.
- B) Dünya'nın aşırı ısınış aşırı soğumasını engeller.
- C) Hava olaylarının oluşumunu sağlar.
- D) Güneşin zararlı ışınlarını süzer.

12. Atmosferde Güneş'ten gelen zararlı ışınları tutan gaz aşağıdakilerden hangisidir?

- A) Azot
- B) Ozon
- C) Metan
- D) Hidrojen

13. Dar bir alanda kısa zaman aralığında değişkenlik gösteren hava olaylarına --- denir.

Cümlede boş bırakılan yere aşağıdakilerden hangisi gelmelidir?

- A) iklim
- B) ekzosfer
- C) klimatoloji
- D) hava durumu

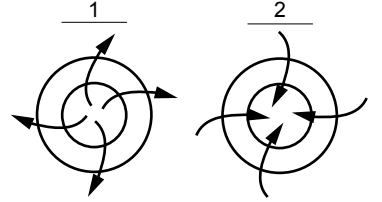
14.



Dünya haritasında numaralanmış yerlerin hangisinde yıllık sıcaklık ortalamaları daha yüksektir?

- A) 1
- B) 2
- C) 3
- D) 4

15.



Görselde 1 ve 2 nolu şekillerle gösterilen basınç merkezleriyle ilgili verilen bilgilerden hangisi doğrudur?

- A) 1 nolu yer Güney Yarımküre'dedir.
- B) 1 nolu yer yüksek basınç alanıdır.
- C) 2 nolu yer yüksek basınç alanıdır.
- D) 2 nolu yer Kuzey Yarımküre'dedir.

16.



Haritada esme yönleri oklarla gösterilen rüzgarlardan hangilerinin ulaştığı yerlerde sıcaklığı artırması beklenir?

- A) 1 ve 2
- B) 1 ve 3
- C) 2 ve 3
- D) 2 ve 4

1. OTURUM

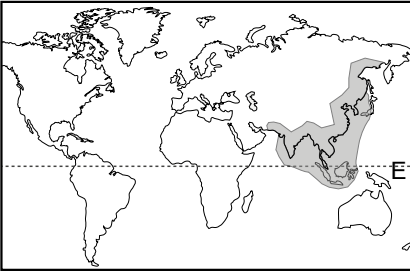
17.



Görsele oluşumu hakkında bilgi verilen yağış türü aşağıdakilerden hangisidir?

- A) Konveksiyonel yağışlar
- B) Yamaç yağışları
- C) Yükselim yağışları
- D) Cephe yağışları

18.



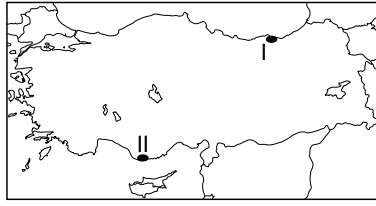
Harita üzerinde etki alanı koyu renkle gösterilen iklim türü aşağıdakilerden hangisidir?

- A) Ilıman okyanus
- B) Akdeniz
- C) Muson
- D) Karasal

19. Türkiye'de sıcaklık dağılışıyla ilgili aşağıdakilerden hangisi söylenemez?

- A) Sıcaklık dağılışında özel konumu etkili değildir.
- B) Dağların güney yamaçları kuzey yamaçlara göre daha sıcaktır.
- C) Güney kıyıları, kuzey kıyılarından daha sıcaktır.
- D) Batıdan doğuya gidildikçe sıcaklık ortalaması düşer.

20.



Haritada numaralandırılmış yerlerde görülen iklim tipleri aşağıdakilerin hangisinde doğru verilmiştir?

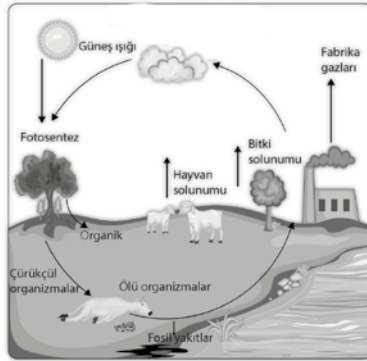
- | I | II |
|--------------|---------|
| A) Karadeniz | Karasal |
| B) Karasal | Akdeniz |
| C) Karadeniz | Akdeniz |
| D) Akdeniz | Karasal |

(155) SEÇMELİ COĞRAFYA – 1

1. Aşağıdakilerden hangisi canlıların yeryüzünde dağılışını etkileyen biyolojik faktörlerdendir?

- A) İklim
- B) İnsan
- C) Toprak
- D) Yer şekilleri

2.



Görsele verilen madde döngüsü aşağıdakilerden hangisidir?

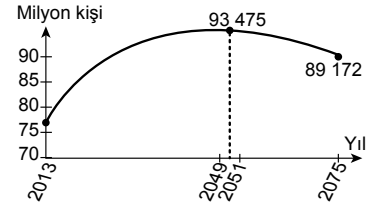
- A) Azot
- B) Kayaç
- C) Karbon
- D) Demir

3. Benzer bitki ve hayvan türlerini barındıran bölgelere biyom denir. Her biyomun kendine özgü iklim, bitki ve hayvan türleri bulunur.

Buna göre biyomlar hakkında verilen bilgilerden hangisi yanlıştır?

- A) Her biyomun iklimi aynı değildir.
- B) Her biyomda hayvan türleri farklıdır.
- C) Her biyomun kendine has bitki türleri bulunur.
- D) Biyomlar arasında bitkilerin yağış isteği aynıdır.

4.

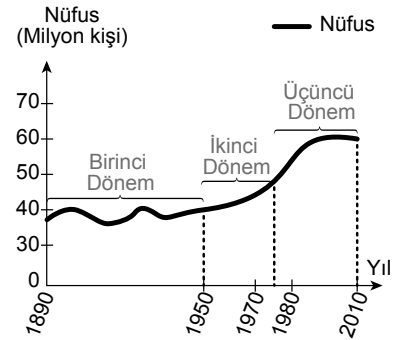


Türkiye'de yapılan nüfus projeksiyonlarında grafikteki gibi nüfus artışının 2050'lerde duracağı, devam eden yıllarda da azalacağı öngörülmektedir.

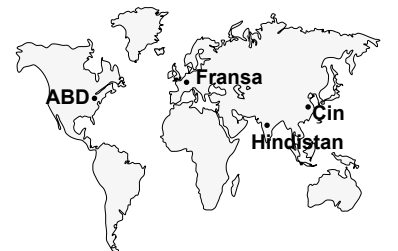
Aşağıdakilerden hangisi bu durumun sonuçlarından biri olacaktır?

- A) Kadın erkek sayısı sabit kalacaktır.
- B) Tarımda çalışan sayısı artacaktır.
- C) Nüfus kırsala göç edecektir.
- D) Yaşlı nüfus oranı artacaktır.

5. Grafikte üç ayrı döneme ait nüfus miktarları gösterilmiştir.



Bu grafik Dünya haritası üzerinde gösterilen ülkelere ait olabilir?



- A) Fransa
- B) ABD
- C) Çin
- D) Hindistan

1. OTURUM

6. - - - - fonksiyonlu şehirlerde üretilen mallar, verilen hizmetler, yapılan işler, alınan kararlar dünya çapında etki alanına sahiptir.

Cümlede boş bırakılan yere aşağıdakilerden hangisinin gelmesi uygundur?

- A) Bölgesel B) Küresel
C) Ulusal D) Yerel

7. Aşağıdaki şehirlerden hangisi büyük limanlardan birine sahiptir?

- A) Çanakkale B) Tekirdağ
C) İskenderun D) Kırklareli

8. Aşağıdakilerden hangisi sürekli kır yerleşmelerindedir?

- A) Dalyan B) Ağıl
C) Kom D) Köy

9. Aşağıdakilerden hangisi enerji kaynağı olarak kullanılmaktadır?

- A) Doğal gaz B) Demir
C) Bakır D) Krom

10. Aşağıdakilerden hangisi tükenmeyen enerji kaynaklarından?

- A) Jeotermal B) Nükleer
C) Petrol D) Güneş

11. Petrol, taş kömürü, doğal gaz ve linyit gibi kaynakların ortak özelliği aşağıdakilerden hangisidir?

- A) Hepsi tükenmeyen doğal kaynaklardandır.
B) Sadece kara üzerlerinde bulunan kaynaklardır.
C) Tümü tükenebilir doğal kaynaklardandır.
D) Verdikleri enerji miktarları eşittir.

12. Aşağıdakilerden hangisi 1923-1932 döneminde Türkiye'de uygulanan ekonomi politikalarından biri değildir?

- A) Nüfus artış hızını düşürmek
B) Sanayinin gelişmesini sağlamak
C) Tarım sektörünü desteklemek
D) Toprak reformu yapmak

13. Tabloda Türkiye arazi kullanım durumu gösterilmiştir.

Kullanım Şekli	Alan (milyon hektar)	%
Tarım Arazisi	27,7	34,7
Çayır ve Mera	21,7	27,2
Orman ve Çalı	20,7	25,9
Diğer	9,6	12,2

Buna göre aşağıdakilerden hangisi söylenebilir?

- A) Çayır ve meraların oranı % 21,7'dir.
B) Tarım arazisi olarak kullanılan alan diğerlerine göre daha fazladır.
C) Arazinin yarısı orman ve çalılardan oluşur.
D) Çayır ve meralarda sadece büyükbaş hayvancılık yapılmaktadır.

14. Tabloda gelişmiş ve gelişmekte olan ülkelerin alüminyum, bakır ve çelik üretim oranı verilmiştir.

Ülkeler	Alüminyum %	Bakır %	Çelik %
Gelişmiş Ülkeler	61,5	56,8	48,8
Gelişmekte Olan Ülkeler	18,3	24,6	24,7

Buna göre aşağıdaki yorumlardan hangisi kesinlikle doğrudur?

- A) Gelişmekte olan ülkelerde maden rezervi daha azdır.
B) Çelik üretimi gelişmekte olan ülkelerde daha fazladır.
C) Bakır üretiminde gelişmekte olan ülkeler daha öndedir.
D) Gelişmiş ülkelerdeki bu ürünlerin toptan üretim oranı gelişmekte olan ülkelere göre daha fazladır.

15. Aşağıdakilerin hangisinde yaşanan değişim tarımsal ürün çeşitliliğini doğrudan etkiler?

- A) Makineleşme B) Gübreleme
C) İklim D) İlaçlama

16. Tarımın Türkiye ekonomisindeki yeri ile ilgili aşağıdaki bilgilerden hangisi yanlıştır?

- A) Sanayi sektörüne girdi sağlar.
B) Nüfusun önemli bir bölümünü istihdam eder.
C) Halkımızın beslenme ihtiyacını karşılar.
D) Yıllar içinde GSYİH'daki oransal payı sürekli artmıştır.

- 17.



Türkiye haritasında üretim alanının dağılışı koyu renkle gösterilen tarım ürünü aşağıdakilerden hangisidir?

- A) Zeytin B) Pirinç
C) Şekerpancarı D) Ayçiçeği

18. Başlıca yatakları Sivas, Kayseri, Malatya'da bulunan Karabük, Ereğli ve İskenderun'daki fabrikalarda işlenen maden aşağıdakilerden hangisidir?

- A) Bor B) Demir
C) Bakır D) Cıva

- 19.



Türkiye haritasında rezerv alanı ve işlendiği merkezin verildiği enerji kaynağı aşağıdakilerden hangisidir?

- A) Linyit B) Fosfat
C) Petrol D) Taş kömürü

20. Aşağıdakilerden hangisi ülkemizde sanayinin dağılışında etkili olan doğal faktörlerdendir?

- A) Ham madde B) Ulaşım
C) Sermaye D) İş gücü

1. OTURUM

(157) SEÇMELİ COĞRAFYA – 3

1. Uzun süre devam eden soğuk hava dalgası aşağıdakilerden hangisine neden olmaz?

- A) İnsan ölümlerine
- B) Ekonominin canlanmasına
- C) Enerji tüketiminin artmasına
- D) Ulaşımın hizmetlerinin aksamasına

2. Son yıllarda ülkemizde de zaman zaman görülen, sera ve tarım alanlarına büyük zarar veren sarmal hareketlerle kendini gösteren ekstrem hava olayı nedir?

- A) Kuraklık
- B) Buz fırtınası
- C) Hortum
- D) Kar yağışı

3. Kütle hareketlerinden biri olan heyelan genellikle eğim ve yağışın fazla olduğu, tabakaların eğime paralel uzandığı killi arazilerde oluşmaktadır. Depremler ve insan faaliyetleri de kütle hareketlerini tetikler. Kütle hareketleri, dağlık bir alanda akarsu yatağının önünü kapatacak şekilde gerçekleştiğinde heyelan set göllerini oluşturur.

Metinde yer alan bilgilere göre kütle hareketleri için aşağıdakilerden hangisi söylenemez?

- A) Düz arazi yapısı, kütle hareketlerini kolaylaştırır.
- B) Beşeri faaliyetler, oluşumuna neden olabilir.
- C) İklim özellikleri, oluşumunda etkilidir.
- D) Yeryüzü şekillerinde değişikliklere neden olabilir.

4. • Bitki örtüsünün tahribi,
• su kaynaklarının fazla tüketimi,
• iklim değişikliği sonucu yaşanan kuraklık,
• tarımda yanlış sulama yöntemleri,
• aşırı otlatma

gibi olaylar bir araya geldiğinde aşağıdakilerden hangisine sebep olur?

- A) Çölleşmeye
- B) Volkanizmaya
- C) Bataklık oluşumuna
- D) Buzulların erimesine

5. Ekonomik faaliyetlerin türü ve özellikleri öncelikle coğrafi şartlara göre çeşitlenir.

Aşağıdakilerin hangisi bu duruma örnektir?

- A) İstanbul'un ham deri üretim merkezi olması
- B) Ankara'da mobilya üretiminin gelişmiş olması
- C) Kayseri'de tekstil sektörünün gelişmiş olması
- D) Antalya'da turizm sektörünün gelişmiş olması

6. Küreselleşme ve ekonomik örgütlenmeye bağlı olarak dünya büyük bir pazar hâline gelecektir ve teknolojik yeniliklere uyum sağlayan ülkeler gelişme çizgilerini artırırcen uyum sağlamayanlar da - - - -

Verilen parçada boş bırakılan yere aşağıdakilerden hangisi gelmelidir?

- A) turizm gelişecektir.
- B) işsizlik ve yoksulluk artacaktır.
- C) başka ülkelere göç alacaktır.
- D) tamamen tarıma yöneleceklerdir.

7. İşlevsel hizmet bölgelerine ayrılan Karayolları Genel Müdürlüğü ülkemizde öncelikle hangi alanda ihtiyacı karşılamak için kurulmuştur?

- A) Sağlık
- B) Eğitim
- C) Ulaşım
- D) Spor

8. DAP olarak adlandırılan ve Doğu Anadolu'daki çok sayıda ili kapsayan projede amaçlardan bazıları yöredeki mera ve hayvan ırklarını iyileştirmek, ticareti canlandırmak, istihdam yaratmaktır.

Verilen bilgilere göre DAP' da aşağıdakilerden hangisinin de hedeflendiği söylenebilir?

- A) Orman yüzölçümünü azaltmak
- B) Yeni milli parklar ilan etmek
- C) Nüfusu kırlardan kentlere yönlendirmek
- D) Kişi başına düşen milli geliri yükseltmek

9. Aşağıdaki mesleklerden hangisi hizmet sektöründe faaliyet göstermektedir?

- A) Çiftçi
- B) Hemşire
- C) Marangoz
- D) Balıkçı

10. Türkiye'nin coğrafi konumunun ulaşımı üzerinde olumlu yönde etkili olduğunu söyleyen biri aşağıdakilerden hangisini buna kanıt olarak ileri süremez?

- A) Ülkemizde dağların kıyı ile iç kesimleri birbirinden ayırmasını
- B) Ülkemizin Orta Doğu, Kafkasya ve Balkanlar arasında olmasını
- C) Anadolu'nun Asya ve Avrupa arasında doğal köprü olmasını
- D) Anadolu'nun tarihi İpek Yolu'nun önemli bir güzergâhı olmasını

11. Ülkemizin ticaret hacmi en yüksek limanı aşağıdakilerden hangisidir?

- A) Antalya
- B) İstanbul
- C) Trabzon
- D) Samsun

12. Dünya ticaretinin gelişmesiyle aşağıdakilerden hangisi arasındaki bağlantı daha kuvvetlidir?

- A) Yeni kıtaların bulunması
- B) Nüfus miktarının yükselmesi
- C) Matbaanın icat edilmesi
- D) Ulaşım sistemlerinin gelişmesi

13. Çin Halk Cumhuriyeti'nin son yıllarda ekonomik ve ticari yönden hızlı büyümesinde aşağıdakilerden hangisinin etkisi daha fazla olmuştur?

- A) Coğrafi konumu
- B) Yeryüzü özellikleri
- C) Ucuz ve bol iş gücü
- D) Zengin kültürel yapısı

14. Aşağıdakilerden hangisi Kuzey Amerika Ticaret Bölgesi'ne (NAFTA) üye ülkelerden biridir?

- A) İngiltere
- B) Rusya
- C) Güney Kore
- D) Meksika

15. Aşağıdakilerden hangisi Dünyadaki ekonomi göstergelerinin istikrarsız olmasına rağmen elektronik ticaretin hacminin artmasının nedenlerinden biri değildir?

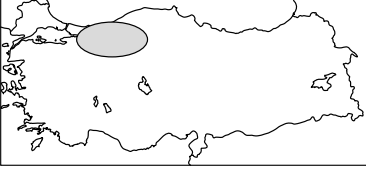
- A) Dünya nüfusun artması
- B) Genel Ağ kullanımının yaygınlaşması
- C) İnternette bilgi kirliliğinin artması
- D) Reklam harcamalarının ve yöntemlerinin çeşitlenmesi

1. OTURUM

16. Bir ülkenin idari sınırları içinde olup ülkenin diğer kesimlerinden farklı olarak dış satıma yönelik bazı ekonomik ayrıcalıkların tanındığı bölgelere ne denir?

- A) Serbest bölge
- B) Gümrük bölgesi
- C) Güven bölgesi
- D) Sınır ticareti bölgesi

17.



Haritada taralı olan yere turist olarak giden birinin aşağıdaki yerlerden hangisini gezmesi beklenmez?

- A) Yedigöller Millî Parkı
- B) Pamukkale
- C) Abant Gölü
- D) Bolu Dağı

18. Anadolu topraklarının hanlar, köprüler, çeşmeler, tarihi kalıntılar ve daha birçok eserle kültür turizmi açısından da önemli bir yere sahip olmasında etkili olan temel sebep aşağıdakilerden hangisidir?

- A) Farklı yeryüzü özelliklerine sahip olması
- B) Yeraltı kaynak çeşitliliğinin fazla olması
- C) Tarımsal ürün çeşitliliğince zengin olması
- D) Çok sayıda medeniyete ev sahipliği yapması

19. Türkiye aktif ve genç fayların olduğu sık sık kırılmaların yaşandığı hassas bir yer yapısına sahiptir. Bu alanlar aynı zamanda sıcak su kaynaklarının bol olduğu yerlerdir.

Verilen bu özellikler ülkemizde hangi turizm türünün gelişmesine daha çok imkân sağlamıştır?

- A) Termal
- B) Botanik
- C) Deniz
- D) Yayla

20. Turizm birbirinden farklı yapılara sahip toplumlar arasında ilişkiler kurarak; farklı bilgi, görgü, gelenek ve kültür düzeyleri arasında etkileşime yol açarak kültürel çeşitliliği sağlayarak dünya barışına katkıda bulunmaktadır. Bu faaliyetlerin yoğun olduğu yerleşmelerde yaşayan insanların dünya görüşleri, anlayışları, farklı ülkelerden gelen insanlarla değişebilir.

Metne göre aşağıdaki yargılardan hangisine varılabilir?

- A) Turizm tüketimi artırır.
- B) Nüfus artışı turizmi geliştirir.
- C) Turizm küresel etkiye sahiptir.
- D) Dünya'daki bazı kültürler yok olmaktadır.

(181) İNGİLİZCE – 1

1 - 18. sorularda boş bırakılan yere uygun gelen kelime ya da ifadeyi işaretleyiniz.

1. Matt : What is your name?

Frank : - - - - .

- A) My name is Frank
- B) I am 32
- C) Nice to meet you
- D) Long time no see

2.



It's - - - - .

- A) seven o'clock
- B) half past seven
- C) quarter to eight
- D) quarter past seven

3. Jamie : Where is Garcia from?

Cindy : She is - - - - .

- A) a dentist
- B) 19 years old
- C) from Australia
- D) studying engineering

4. Pete : - - - - do you brush your teeth?

Harry : Twice a day.

- A) What
- B) Where
- C) How often
- D) How old

5. Gulia : - - - - you got a car?

Maria : No, I haven't.

- A) Do
- B) Are
- C) Did
- D) Have

6. Tom : Excuse me! - - - - a stadium near here?

Gina : Yes, the stadium is over there.

- A) How old
- B) Is there
- C) Have you got
- D) How many

7.

İzmir 22°C

Van 5°C

Van is - - - - than İzmir.

- A) colder
- B) fatter
- C) shorter
- D) slower

8. China is the - - - - country in the world.

- A) crowd
- B) crowded
- C) most crowded
- D) more crowded

9.



The dogs are - - - - the cars.

- A) in
- B) under
- C) behind
- D) between

10.

tall


short

- - - -

small

- A) big
- B) easy
- C) long
- D) good

1. OTURUM

 Kate	• Comedy films	• Horror films
	• Action films	• Documentaries
	✓	X

Kate - - - - .

- A) likes horror films
 B) enjoys documentaries
 C) hates action films
 D) loves comedy films

12. **Nick** : Why don't we go to the cinema tonight?

Paul : - - - - .

Nick : Ok, then see you at 8 p.m at the cinema.

- A) I'm sorry, I can't
 B) That's a bad idea
 C) Sure, that sounds great
 D) I'd love to, but I'm busy

13. **We can** - - - - trees to prevent erosion.

- A) plant B) waste
 C) damage D) cut down

14. **Mandy** : What does Sandra do at weekends?

George : She - - - - .

- A) is Italian
 B) is talkative
 C) goes to the theatre
 D) has got dark hair

15. **Jim** : - - - - - ?

Jack : He is tall and well-built.

- A) How old is Jason
 B) What is Mark like
 C) What is Jack doing
 D) What does Russel look like

16.



Olivia : What is Sandy doing?

Anna : She is - - - - .

- A) surfing the web
 B) preparing dinner
 C) brushing her teeth
 D) swimming in the sea

17. **Nancy** : What is your best friend like?

Mary : She is - - - - - .

- A) tall B) sensitive
 C) skinny D) beautiful

18. **Anderson** : I think Keanu Reeves is more emotional than Anthony Hopkins.

Brian : - - - - . I think vice versa.

- A) I disagree with you
 B) I totally agree
 C) That's true
 D) So do I

19 - 20. soruları metne göre cevaplayınız.

Hi, Suzan

I hope you are back from France and you are well. Did you enjoy Paris? You will tell me everything when you come to my party.

The party is at Muffin Cafe on Saturday, 5th April at 6:30 p.m.

I hope you'll come.

Love
 Magi

19. **What time is the party?**

- A) on Saturday B) in the morning
 C) in April D) at 6:30 p.m.

20. **Where is the party?**

- A) in France
 B) at Muffin Cafe
 C) at Magi's house
 D) in Paris

(181) ALMANCA – 1

1 - 17. sorularda boş bırakılan yere uygun gelen kelime ya da ifadeyi işaretleyiniz.

1. **A:** Guten Tag! Sind Sie Herr Müller?
B: Ja, ich - - - - Herr Müller.
 A) ist B) bin C) sein D) sind

2. **A:** - - - - Claudia in Hamburg?
B: Nein, in Berlin.

- A) Wohnt B) Wohnen
 C) Wohne D) Wohnst

3. **A:** Kommt Tony aus Spanien?
B: Nein, er kommt aus - - - - (İtalya).

- A) Holland B) England
 C) Türkei D) Italien

4. **A:** Wo - - - - du Mehmet?
B: Ich - - - - in Eskişehir.

- A) lebst / lebe
 B) sitzt / sitzen
 C) wohnt / wohnen
 D) gehe / gehst

5. **Sayıların karşılığının doğru olarak verildiği seçeneği işaretleyiniz.**

22 - (- - - -)
 18 - (- - - -)

- A) zwölf / achtzig
 B) zwei / acht
 C) zweiundzwanzig / achtzehn
 D) zwanzig / achtundzwanzig

6. - - - - Auto, - - - - Tasche

Yukarıda sözcüklerin önüne gelmesi gereken "Artikel" ler hangi seçenekte doğru verilmiştir?

- A) das / das B) der / das
 C) die / der D) das / die

7. **Klaus** - - - - an der Universität in Berlin.

- A) Student B) studiert
 C) Studentin D) studieren

8. **Dienstag, Mittwoch, Sonntag** sind - - - - .

- A) Wochentage
 B) Jahreszeiten
 C) Unterrichtsfächer
 D) Monate

9. **A:** - - - - Hasan mit dem Computer?
B: Nein, er - - - - seine Hausaufgaben.

- A) Lernt / schreiben
 B) Kocht / kommen
 C) Spielt / macht
 D) Sitzen / kamen

1. OTURUM

10.



Der Junge ist ---- und ----.

- A) blau / langes B) kurz / dick
C) lang / altes D) gross / klein

11. Ich finde Computerspiele ----.

- A) lauter B) kurzes
C) interessantes D) langweilig

12.



Seine Nase ist ----.

- A) lang B) schnell
C) blond D) kleine

13. Die Handynummer ist null, sieben, drei, null, zwei, acht, sieben, fünf, neun, sieben, vier. Das ist ----.

- A) 07502078954
B) 07302874985
C) 07203087974
D) 07302875974

14. A: ---- hat Mustafa
Deutschunterricht?

B: ---- Dienstag in der 5. und 6.
Stunde.

- A) Wo / Im B) Wer / Auf
C) Wann / Am D) Womit / Dann

15. Das sind ---- Unterrichtsfächer.
(du)

- A) meine B) ihre
C) seine D) deine

16.



A: Ist das eine Tafel?

B: Nein, es ist eine ----.

- A) Bleistift B) Landkarte
C) Schultasche D) Schere

17.



Aylin ---- ein Bild.

- A) ließt B) malt
C) singt D) hört

18. "grün, braun" renklerinin Türkçe karşılığı hangi seçenekte doğru verilmiştir?

- A) Yeşil / Kahverengi
B) Mavi / Kırmızı
C) Siyah / Sarı
D) Beyaz / Gri

19. 75 ve 83 sayılarının Almanca karşılığı hangi seçenekte doğru verilmiştir?

- A) siebenundfünfzig / achtunddreißig
B) funfundsechzig / dreiundzwanzig
C) funfundsiebzig / dreiundachtzig
D) siebzig / achtzig

20. Saat 17:45

Almanca karşılığı hangi seçenekte doğru verilmiştir?

- A) Es ist halb sechs.
B) Es ist Viertel nach fünf.
C) Es ist Viertel vor sechs.
D) Es ist halb fünf.

(181) FRANSIZCA – 1

1 - 18. sorularda boş bırakılan yere uygun gelen kelime ya da ifadeyi işaretleyiniz.

1. Aysel : Qui est-ce? Tu le connais?

Sabine : Oui, c'est ----.

- A) mon amie japonaise
B) le cousin de Marie
C) ma tante Françoise
D) la directrice de l'hôtel

2. Mon voisin n'aime pas attendre. Il est ----.

- A) impatient B) gentil
C) malade D) paresseux

3. Marie : Comment vont ta tante et ton cousin?

Sibel : ----.

- A) Ah bon! Ils s'appellent Fatima et Omar.
B) Mais non, elles sont italiennes.
C) Son âge? C'est un secret de famille.
D) Ils vont très bien.

4. Ahmet : Quelle est ---- à Paris?
Denise : J'habite 34, rue de Rivoli.

- A) ton adresse
B) son numéro de téléphone
C) la température
D) ma pointure

5. Ma fille va en vacances ---- New York, ---- Etats-Unis.

- A) à / au B) en / à
C) à / aux D) au / en

6. Directeur : Ton père travaille à l'hôpital ?

Etudiant : ----.

- A) Non, il a mal à la tête.
B) Ah oui, il aime bien ce repas.
C) Non, elle fait du sport.
D) Oui, mais il n'est pas médecin.

7. La fille de mon oncle, c'est ----.

- A) ma cousine B) mon neveu
C) ma nièce D) ma tante

8. Paul : ---- est-ce que tu connais dans cette classe?

Metin : Je connais cette fille chinoise.

- A) Qu' B) Qui C) Où D) Quel

9. Alors, qu'est-ce que (qu') ---- fait maintenant ?

- A) ils B) nous
C) on D) vous

10. Esra : ---- ?

Léa : Elle a dix-huit ans.


- A) Quel âge a ton amie espagnole
B) Quelle pointure faites-vous
C) Quel est votre numéro de téléphone
D) Quelle heure est-il

1. OTURUM

11. **Tous les enfants - - - les mains avant le repas.**

- A) s'appellent B) se trouvent
C) se promènent D) se lavent

12.



Le matin, je me lève à - - - .

- A) dix heures moins six
B) six heures moins dix
C) dix heures et demie
D) six heures dix

13. **Gül** : Comment est-ce que tu rentres chez toi?

Gilles : - - - .

- A) Ah oui, j'ai peur de l'avion
B) Le matin, le train part à 7h.
C) Eh bien, je prends le métro.
D) Mais non, j'y vais avec ma mère.

14. **Mon amie est très malade, alors - - - .**

- A) il peut faire ses devoirs
B) elle ne peut pas aller à l'école
C) elle peut partir en vacances
D) il peut danser toute la nuit

15. **Derya** : Tu vas - - - le dentiste?
Pierre : Oui, j'ai mal - - - dents.

- A) chez / aux B) à / au
C) en / de D) avec / à

16. **J'écris dans mon cahier avec - - - .**

- A) mes yeux B) mes dents
C) mes mains D) mes oreilles

17. **Au petit déjeuner, les Français mangent - - - croissants et boivent - - - café.**

- A) du / de la B) des / au
C) de la / du D) des / du

18. **En été, - - - à Adana.**

- A) il fait très froid
B) il neige souvent
C) il fait très chaud
D) il n'y a pas de soleil

19. (I) habite / (II) parents / (III) Patrick / (IV) avec / (V) ses

Numaralanmış sözcüklerin kurallı ve anlamlı bir cümle oluşturan sırası aşağıdakilerden hangisidir?

- A) IV - II - V - I - III
B) I - III - V - IV - II
C) II - IV - III - V - I
D) III - I - IV - V - II

20. "Dans notre jardin, il y a 92 arbres." cümlesindeki altı çizili sayının yazılışı aşağıdakilerin hangisinde doğru olarak verilmiştir?

- A) quatre-vingt-deux
B) quatre-vingt-douze
C) quarante-deux
D) quatre-cent-douze

(222) SAĞLIK BİLGİSİ VE TRAFİK KÜLTÜRÜ - 2

1. Trafik düzenini ve trafikte bireylerin güvenliğini yalnızca yazılı kurallarla sağlamak mümkün değildir. Bu noktada insan ilişkilerinde geçerli olan değerler ön plana çıkmaktadır.

Buna göre aşağıdakilerden hangisi insan ilişkilerinde geçerli olan değerlerden biri değildir?

- A) Nezaket
B) Sorumsuzluk
C) Duyarlılık
D) Yardımlaşma

2. **Toplu taşıma araçlarında yaşlı, hamile ve engelli vatandaşların rahat yolculuk yapabilmeleri kimlerin sorumluluğundadır?**

- A) Sadece gençlerin
B) Sadece sürücülerin
C) Sadece oturarak yolculuk yapan yolcuların
D) Toplu taşıma araçlarındaki herkesin

3. **Aşağıdakilerden hangisi okul servis araçlarında aranan şartlardan biri değildir?**

- A) Camların üstüne renkli film tabakaları yapılandırılması.
B) Bu araçların altı ayda bir periyodik bakım ve onarımları yaptırılması.
C) Okul servis araçlarının kapıları, şoför tarafından açılıp kapatılabilecek şekilde olmalıdır.
D) İç ve dış kamera ile en az otuz gün süreyle kayıt yapabilen kayıt cihazı bulundurulmalıdır.

4. I. İhlali yapan aracın plakası
II. Olayın gerçekleştiği tarih ve saat
III. İhlalin hangi yol veya kavşakta meydana geldiği

Kara yollarında, denetimin olmadığı yer ve zamanlarda kural ihlalleri veya trafik akışını olumsuz etkileyen bir durum olduğunda 112 Acil Çağrı Merkezine yukarıdakilerden hangileri bildirilmelidir?

- A) Yalnız I. B) Yalnız II.
C) Yalnız III. D) I, II ve III.

5. **Aralıklı yanıp sönen sarı ışık sürücülere neyi bildirir?**

- A) Yolun yayalara kapalı olduğunu
B) Sağa ya da sola dönülemeyeceğini
C) İkaz anlamında olup bu yerin yavaş ve dikkatli geçilmesi gerektiğini
D) Dur işareti anlamında olup gidilecek yolun açık olduğu görüldükten sonra yeniden hareket edilmesi gerektiğini

6. **Kara yollarında hangisinin yapılması tehlikeli bir durum oluşmasına neden olur?**

- A) Aracın cinsine uygun şeritten gidilmesi
B) Geçirilen araç sürücüsünün geçme sırasında hızını artırması
C) Geçmenin, geçilecek aracın solundaki şeritten yapılması
D) Kavşaklara yaklaşırken yerleşim yerlerinde 150 metre mesafe için de şerit değiştirilmesi

7. **Aşağıdaki yol bölümlerinin hangisinde öndeki araç geçilebilir?**

- A) Yaya ve okul geçitlerine yaklaşırken
B) Kavşaklarda ve demir yolu geçitlerinde
C) Görüşün yeterli olduğu tepe üstü ve dönemeçlerde
D) Gidiş ve geliş için birer şeridin bulunduğu iki yönlü trafiğin kullanıldığı köprülerde

8. **Kara yolunda aynı şeritte birbiri ardında hareket hâlinde olan iki araç arasındaki mesafeye - - - mesafesi denir.**

Bu ifadede boş bırakılan yere aşağıdakilerden hangisi gelmelidir?

- A) takip B) durma
C) görüş D) geçme

1. OTURUM

9. • Yol üzerinde bir engelle karşılaşan aracın hızı ne kadar yüksek ise doğru noktada durması o kadar zorlaşmaktadır.
• Kara yollarında araçların hızlı kullanımının önüne geçilmesi, kaza oranlarının azalmasını sağlayacaktır.

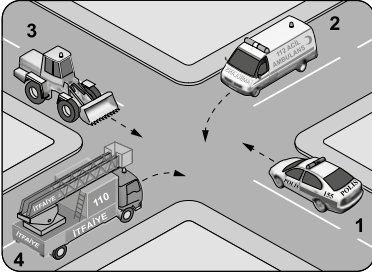
Kara yollarında araçların hızlı kullanılması ile ilgili verilen cümleler doğru (D) - yanlış (Y) olarak değerlendirildiğinde sıralama aşağıdakilerden hangisi olur?

- A) D - Y B) Y - D
C) D - D D) Y - Y

10. **Sürücülerin demir yolu geçitlerinde aşağıdakilerden hangisini yapması yanlıştır?**

- A) Işıklı veya sesli "DUR" işaretine uymaları
B) Geçidin durumuna göre uygun bir hızla geçmeleri
C) Kontrolsüz demir yolu geçitlerinde, geçmeden önce makul bir mesafede durmaları
D) Geçide girmeden önce bariyerler indirilmeye başlanırsa hızlarını artırarak geçmeleri

11.



Şekildeki kavşakta ilk geçiş hakkını hangi numaralı araç kullanmalıdır?

- A) 1 B) 2 C) 3 D) 4

12. İnsan etmeninin kazalara etkisi ülkemizde %99 iken Avrupa ülkelerinde bu oran %50'dir.

Buna göre insan merkezli bu sorunun çözümünde aşağıdakilerden hangisinin önemi daha da artmaktadır?

- A) Trafik eğitiminin
B) Kara yollarının iyileştirilmesinin
C) Trafik cezalarının artırılmasının
D) Araç bakımlarının yaptırılmasının

13. **Aday sürücülük süresi içinde, aday sürücünün aşağıdakilerden hangisini yapması durumunda sürücü belgesi trafik görevlilerince iptal edilir?**

- A) Okul geçitlerinden geçen öğrencilere ilk geçiş hakkının verilmesi kuralını iki kez ihlal etmesi
B) "Emniyet kemeri, kask vb. kullanılması zorunludur." kuralını bir kez ihlal etmesi
C) "Hız sınırları üzerinde araç kullanmak yasaktır." kuralını bir kez ihlal etmesi
D) Toplam 75 ceza puanını aşması

14. **Aracın zorunlu trafik sigortasının olmadığı tespit edilirse yetkililerce hangi cezai işlem uygulanır?**

- A) Sürücünün ehliyeti geri alınır.
B) Araç hemen trafikten çekilir.
C) Araç teknik muayeneye gönderilir.
D) Sigortanın yaptırılması için 30 gün süre verilir.

15. **Aşağıdakilerden hangisi güvenli yolculukta alınması gereken önlemlerdendir?**

- A) Sürüş sırasında dikkati dağıtacak işlerle meşgul olmak
B) Bisiklet ve motosiklet gibi araçlarla kaldırımlara çıkmak
C) Yağmurlu ve karlı havalarda ani fren ve manevra yapmak
D) Trafik ışık, levha, işaret ve işaretçilerine dikkat etmek

16. **Aşağıdakilerden hangisi trafik kazalarında çevre ve iklim koşullarından kaynaklanan nedenlerdendir?**

- A) Aşırı hız
B) Kaplamanın niteliği
C) Kara yolunun buzlanması
D) Yük üzerinde yolculuk yapma

17. **Aşağıdakilerden hangisi sürücünün yapmış olduğu kural ihlallerinden biri değildir?**

- A) Kırmızı ışıkta geçmek
B) Takip mesafesini azaltmak
C) Kavşaklarda geçme yapmak
D) Hız sınırlamalarına dikkat etmek

18. **Aşağıdakilerden hangisi alkollü-yken araç kullananlarda görülebilecek davranışlardandır?**

- A) Algılama yeteneklerinin zayıflaması
B) Görmelerinin daha net olması
C) Sürüş kabiliyetlerinin artması
D) Kaslarının daha güçlenmesi

19. I. Kaza mağduru bireyler sosyal hayattan uzaklaşır.
II. Trafik kazası yaşayan bireylerin kendilerine güvenleri artar.
III. Trafik kazalarının getirdiği maddi külfet, kişi başına düşen millî geliri olumlu yönde etkiler.

Verilenlerden hangileri trafik kazalarının sonuçlarındandır?

- A) Yalnız I. B) I ve III.
C) II ve III. D) I, II ve III.

20. **Aşağıdakilerden hangisi trafiğin çevreye verdiği zararları en aza indirmek için alınacak önlemlerdendir?**

- A) Araçlarda klimanın sürekli çalıştırılması
B) Araçlarda motora uygun yakıt seçilmesi
C) Mümkün olduğunca özel araçların kullanılması
D) Araç bakımlarının yetkisi olmayan servislerde yaptırılması

(244) İNGİLİZCE – 5

1 - 20. sorularda boş bırakılan yere uygun gelen kelime ya da ifadeyi işaretleyiniz.

1. **Meghan wants to be a - - - - because she loves animals.**

- A) manager B) vet
C) engineer D) technician

2. **Peter** : I left my wallet at home. I haven't got any money.

Sandra : Don't worry. I - - - - you some.

- A) have lent B) lent
C) will lend D) lend

3. **Nancy** : What are your plans for the future?

Eve : I - - - - medicine.

- A) study
B) studied
C) am studying
D) am going to study

1. OTURUM

4. In a CV, "----" means things you can do.

- A) qualifications
- B) references
- C) personal details
- D) interests

5. I'd rather buy a sports car ---- a sedan.

- A) than
- B) to
- C) at
- D) from

6. Diana : Are you interested in handicraft?

Lidya : No, I'm ---- handicraft.

- A) crazy about
- B) good at
- C) talented in
- D) bad at

7. "Professional experience" means the ----.

- A) things you enjoy
- B) jobs you did before
- C) name, address and date of birth
- D) schools which you graduated from

8. The room was very dark. We ---- see anything.

- A) couldn't
- B) could
- C) can't
- D) can

9.



Robert is good at ----.

- A) fixing toys
- B) planting flowers
- C) painting portraits
- D) climbing mountains

10. While she was roller skating, she ---- her ankle.

- A) sprained
- B) will sprain
- C) sprains
- D) had sprained

11. Harry ---- an operation and stayed in the hospital last week.

- A) has
- B) had
- C) will have
- D) is going to have

12. When I was a child, I ---- cartoons but I don't watch them now.

- A) had watched
- B) have watched
- C) will watch
- D) used to watch

13. I was listening to music when you ---- me.

- A) are going to call
- B) will call
- C) called
- D) call

14. By the time I arrived at the cinema, the film ----.

- A) had started
- B) started
- C) is going to start
- D) starts

15. The murderer had left ---- the police arrived at the crime scene.

- A) as
- B) after
- C) while
- D) before

16. To "----" means to study a subject in order to discover new information.

- A) diagnose
- B) research
- C) revise
- D) allow

17. Last week it was freezing and I caught a cold. I wish I had ----.

- A) spent so much time in the hospital
- B) argued with my doctor
- C) driven carefully
- D) worn my coat

18. He is keen ---- computers.

- A) in
- B) at
- C) on
- D) of

19. Edward ---- if he had driven his car more carefully.

- A) will crash
- B) have crashed
- C) wouldn't have crashed
- D) wouldn't crash

20. I sold my car last week. It's my biggest regret. I wish I ---- my car.

- A) sell
- B) sold
- C) didn't sell
- D) hadn't sold

(244) ALMANCA – 5

1 - 18. sorularda boş bırakılan yere uygun gelen kelime ya da ifadeyi işaretleyiniz.

1. A: Was hat sie gemacht?

B: Sie hat dem Lehrer ---- (zuhören)

- A) hören
- B) zugehört
- C) hörte zu
- D) gehört

2. Eine Reise ----.

- A) buchen
- B) zuhören
- C) ankommen
- D) abfahren

3. Der Lehrer hat die Tür ---- (zumachen).

- A) mach zu
- B) zumachen
- C) machte zu
- D) zugemacht

4. Aylin : Ich muss noch den Kaffee bezahlen.

Petra : Ich habe schon alles ----.(bezahlen)

Aylin : Vielen Dank.

- A) bezahlen
- B) bezahlt
- C) bezahlte
- D) bezahlten

5. Die Schüler unterhalten ----.

- A) sich
- B) mein
- C) dir
- D) ihr

6. Ich ---- jeden Monat Miete für meine Wohnung.

- A) gehe
- B) einkaufen
- C) bezahle
- D) besichtigen

7. In der Woche gehe ich immer ---- 22 Uhr ins Bett.

- A) am
- B) im
- C) ins
- D) um

8. Ich kann genauso gut singen ---- Peter.


- A) als
- B) wie
- C) so
- D) uns

1. OTURUM

9. **A:** - - - - steht das Wörterbuch?
B: Es steht im Bücherregal.

- A) Wer B) Wohin
C) Womit D) Wo

10. **A:** Wohin legt das Kind den Apfel?
B: Es legt den Apfel - - - - den Tisch.



- A) auf B) über C) in D) unter

11. **Wir erinnern - - - - an das Klassenfoto.**

- A) über B) sich C) uns D) ihr

12. **A:** - - - - freut sich Merve im Sommer?
B: Auf das Meer.

- A) Warum B) Worauf
C) Womit D) Wann

13. **lang, - - - -, am längsten**

- A) länger B) langes
C) längste D) lange

14. **Murat kann - - - - (schnell) laufen als ich. Arda läuft am - - - - (schnell)**

- A) schnell / schneller
B) schneller / schnell
C) schnelle / schnellste
D) schneller / schnellsten

15. **Nalan - - - - zu Hause bleiben.**

- A) willst B) wollen
C) wolltet D) wolltet

16. **Die Schüler freuen - - - - auf die Sommerferien.**

- A) mich B) sich
C) uns D) euch

17. **Die Schülerin schwimmt genauso schnell - - - - eine Sportlerin.**

- A) wie B) als C) so D) dann

18. **Sie sagt, - - - - sie Claudia heißt.**

- A) wer B) dass C) denn D) wie

19.



Was sind das?

- A) Kartons B) Zeitungen
C) Flaschen D) Teller

20. **Was macht er?**



- A) schlafen B) singen
C) essen D) lesen

(244) FRANSIZCA – 5

1 - 18. sorularda boş bırakılan yere uygun gelen kelime ya da ifadeyi işaretleyiniz.

1. **La sœur de ma mère est - - - - .**

- A) ma nièce B) ma tante
C) ma cousine D) ma belle-mère

2. **Elle a les yeux - - - - et porte des lunettes - - - -**

- A) verts / blanches
B) vertes / blancs
C) vert / blanc
D) verte / blanche

3. **J'aimerais bien retourner dans le village - - - - je suis née.**

- A) que B) qui C) dont D) où

4. **Le vendeur a - - - - le magasin à 8 heures du matin.**

- A) ouvres B) ouvrez
C) ouvert D) ouvrir

5. **Aliye** : Comment est-ce que tu trouves - - - - jupe bleue ?

Marie : Je - - - - trouve très à la mode.

- A) cette / la B) ce / le
C) ces / les D) cet / l'

6. **Quelle est - - - - ?**

- A) ton activité préférée
B) son passe-temps favori
C) votre numéro de téléphone
D) notre sujet principal

7. **Journaliste** : S'il te plaît, jeune homme, je peux - - - - poser quelques questions !

Jeune homme : Excusez- - - - , monsieur ! Je ne vous comprends pas.

- A) vous / vous B) te / moi
C) me / vous D) se / nous

8. **Quand il était jeune, mon grandpère - - - - toujours au travail à pied.**

- A) est allée B) va
C) allait D) ira

9. **Si tu consommes trop de médicaments, - - - -**

- A) ton père te prête sa voiture
B) tes résultats seront meilleurs
C) tu peux être toujours en bonne santé
D) cela peut te poser des problèmes de santé

10. **Pour aller moins chez le médecin, il faut - - - - des produits bio.**

- A) mangez B) manger
C) mangeait D) mangé

11. **David** : - - - - de ces cravates neuves aimerais-tu mettre pour la fête ?

Mireille : - - - - .

- A) Lequel / La verte
B) Lesquelles / Les bleus
C) Laquelle / La jaune
D) Lesquels / Les noires

12. **Je viens de rencontrer le journaliste - - - - a écrit cet article.**

- A) qui B) où C) dont D) que

1. OTURUM

13. **Le match a été annulé - - - - la pluie.**
- A) pour B) à cause de
C) comme D) car
14. **Patiente** : Comment je peux lutter contre l'obésité ?
Diététicien : - - - - .
- A) Ne limitez pas la consommation de produits sucrés
B) On ne doit pas changer son mode de vie
C) D'abord, il faut arrêter l'alimentation déséquilibrée
D) Il ne faut pas faire d'activités physiques
15. **Ma mère a des invités ce soir, donc elle va - - - - pour acheter des gâteaux.**
- A) chez le pâtissier
B) à la bijouterie
C) chez la pharmacienne
D) à la boucherie
16. **Les piétons doivent - - - - au feu vert.**
- A) attendre B) s'arrêter
C) traverser D) monter
17. **Pour faire des crêpes, il faut - - - - farine, - - - - œufs et un peu - - - - lait.**
- A) de / du / de la B) des / des / du
C) du / de la / de D) de la / des / de
18. **Excuse-moi, mais je ne te comprends pas. Parle plus - - - - s'il te plaît !**
- A) vite
B) difficilement
C) dangereusement
D) lentement
19. (I) Dans tous les pays du monde, il y a des gestes de communication.
(II) Ces gestes sont très différents d'une culture à l'autre.
(III) C'est pourquoi, il peut y avoir des problèmes de compréhension.
(IV) Beaucoup de gens font du régime pour perdre leurs kilos en trop.
- Verilen cümleler sırasıyla okunduğunda anlam bütünlüğünü bozan cümle aşağıdakilerden hangisidir ?**
- A) I B) II C) III D) IV

20.



Aşağıdakilerin hangisinde resmi tam olarak anlatan bir ifade verilmiştir ?

- A) Elle est derrière le fauteuil et elle lit.
B) Elle est devant l'ordinateur et elle écrit.
C) Elle est en face de la table et elle dort.
D) Elle est chez elle et elle fait le ménage.

(421) FİZİK – 1

1. **Madde ve enerji arasındaki etkileşimi inceleyip doğada gerçekleşen olaylarla ilgili mantıklı açıklamalar getirmeye çalışan bilim dalı aşağıdakilerden hangisidir?**
- A) Biyoloji B) Matematik
C) Fizik D) Tarih
2. **Cisimlerin nasıl hareket ettiklerini, kuvvet ve hareket arasındaki ilişkiyi inceleyen fizik biliminin alt dalı aşağıdakilerden hangisidir?**
- A) Mekanik B) Elektrik
C) Katihâl fiziği D) Termodinamik
3. **Aşağıdakilerden hangisi türetilmiş büyüklüktür?**
- A) Hacim B) Kütle
C) Zaman D) Sıcaklık
4. **Bir sandık iki kişi tarafından $\vec{F}_1 = 8 \text{ N}$ ve $\vec{F}_2 = 12 \text{ N}$ 'luk kuvvetlerle şekildeki yön ve doğrultuda çekilmektedir.**
-
- Buna göre sandığa etki eden bileşke kuvvet kaç Newton'dur? (Sürtünme kuvveti ihmal ediliyor.)**
- A) 2 B) 4 C) 16 D) 20

5. **Tabloda skaler ve vektörel büyüklükler işaretlenmiştir.**

	Skaler büyüklük	Vektörel büyüklük
Hacim		X
Hız		X
Kuvvet		X
Özkütle	X	

Buna göre hangi büyüklük yanlış işaretlenmiştir?

- A) Hacim B) Hız
C) Kuvvet D) Özkütle

6. I. TÜBİTAK (Türkiye Bilimsel ve Teknolojik Araştırma Kurumu)
II. TAEK (Türkiye Atom Enerjisi Kurumu)
III. CERN (Avrupa Nükleer Araştırma Merkezi)

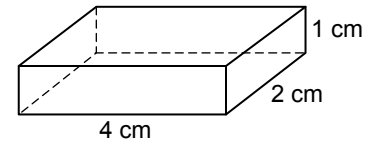
Yukarıdaki araştırma merkezlerinden hangileri ülkemizde kurulan bilim araştırma merkezleri arasında yer alır?

- A) Yalnız I. B) I ve II.
C) II ve III. D) I, II ve III.

7. **Oyuncak bir kamyonun kütlesi 600 g olduğuna göre kilogram cinsinden büyüklüğü kaçtır? (1 kg = 1000 g)**
- A) 0,6 B) 1 C) 6 D) 10

8. **Bir kenarı 4 cm olan küp şeklindeki tahta cismin hacmi kaç cm^3 'tür? ($V = a^3$)**
- A) 16 B) 24 C) 32 D) 64

9. **Kenar uzunlukları 1 cm, 2 cm ve 4 cm olan şekildeki dikdörtgen prizmanın kütlesi 1,6 g'dır.**



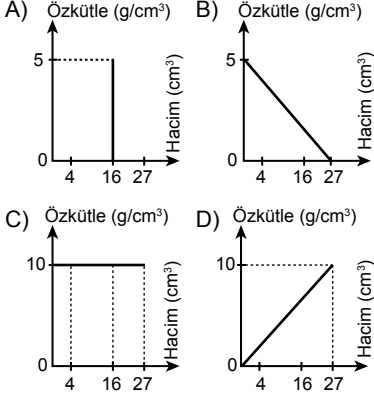
- Buna göre prizmanın özkütlesi kaç g/cm^3 tür?**
- A) 0,8 B) 0,3 C) 0,4 D) 0,2

1. OTURUM

10. Tabloda küp şeklindeki bir cismin kütle-hacim değerleri verilmiştir.

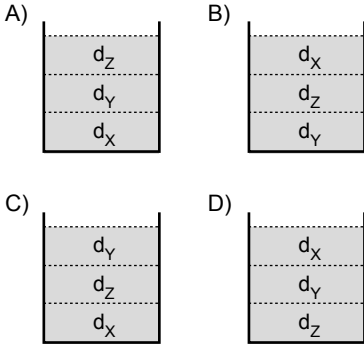
Kütle (g)	40	160	270
Hacim (cm ³)	4	16	27

Buna göre cisme ait özkütle-hacim grafiği aşağıdakilerden hangisidir?



11. Özküteleri sırasıyla $d_x = 1 \text{ g/cm}^3$, $d_y = 0,2 \text{ g/cm}^3$ ve $d_z = 0,4 \text{ g/cm}^3$ olan birbirini içinde çözünmeyen eşit hacimli sıvılar bir kaba konuluyor.

Buna göre d_x , d_y ve d_z özkütelli sıvıların kap içindeki sıralanışı aşağıdakilerden hangisidir?



12. I. Geleneksel sanatlarımızdan olan ebru sanatının uygulanması
II. Killi topraktan imal edilen porselen eşya yapımı
III. Hastanelerdeki kan tahlilleri işlemleri

Verilen eylemlerden hangilerinin uygulama alanlarında özkütle farkından yararlanır?

- A) Yalnız I. B) Yalnız II.
C) Yalnız III. D) I, II ve III.

13. Su damlasının çiçek yaprağına yapışmasını sağlayan kuvvet aşağıdakilerden hangisidir?

- A) Tutma (Kohezyon)
B) Yapışma (Adezyon)
C) Kılcallık
D) Yüzey gerilimi

14. Ayşe kirli olan bardak ve tabağını temizlemek için;

- I. sıcak su,
II. soğuk su,
III. tuzlu su

hangileri kullanılırsa suyun yüzey geriliminin artması sonucu temizlemek daha zorlaşır?

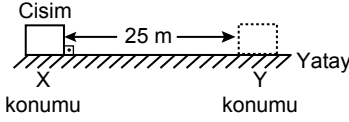
- A) Yalnız I. B) Yalnız II.
C) Yalnız III. D) II ve III.

15. Cisim sabit bir nokta etrafında dönüyorsa cismin yaptığı harekete dönme hareketi denir.

Buna göre aşağıdaki hareketlerden hangisi dönme hareketine örnek verilir?

- A) Çalınan gitar telinin hareketi
B) Uçan arının kanatlarının hareketi
C) Saatteki akrep ve yelkovanın hareketi
D) Doğrusal bir yolda ilerleyen arabanın hareketi

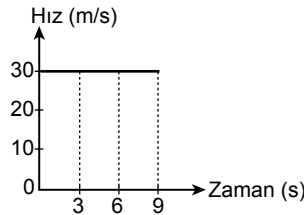
16. Konum: Cismin belirli bir referans noktasına göre olan yönlü uzaklığıdır.



Buna göre şekildeki cisim X konumundan Y konumuna geldiğinde yer değiştirme ve alınan yol kaç metredir?

	Yer değiştirme (m)	Alınan yol (m)
A)	Sıfır	25
B)	25	Sıfır
C)	25	25
D)	Sıfır	Sıfır

17. Bir bisikletliye ait hız-zaman grafiği şekildeki gibidir.



Buna göre 9 saniye sonunda bisikletli kaç metre yol almıştır?

- A) 270 B) 280 C) 320 D) 360

18. Bir hareketlinin birim zamandaki (1 saniyede) hızında meydana gelen değişime aşağıdakilerden hangisi denir?

- A) Konum B) Yol
C) İvme D) Zaman

19. Aşağıdakilerden hangisi temas gerektiren kuvvetlere örnek verilebilir?

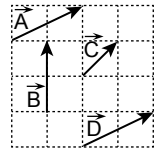
- A) Elmanın ağaçtan yere düşmesi
B) Paket lastiğinin gerilmesi
C) Miknâsın demir tozlarını çekmesi
D) Elektriklenmiş tarağın saçları çekmesi

20. Aşağıdakilerden hangisi sürtünme kuvvetinin avantajlarından biri değildir?

- A) Hareketli bir aracın fren yaparak durması
B) Canlıların yolda yürümesi
C) Tahtaya yazı yazılması
D) Uzun araçlarının hareketi sırasında atmosferden çıkması

(425) SEÇMELİ FİZİK - 1

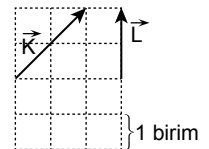
1. İki vektörün yönü ve şiddeti aynı ise bu vektörler eşit vektörlerdir.



Buna göre şekildeki vektörlerden hangileri eşit vektördür? (Birim kareler eşit bölmelendirilmiştir.)

- A) \vec{A} ve \vec{B} B) \vec{B} ve \vec{C}
C) \vec{A} ve \vec{D} D) \vec{C} ve \vec{D}

2. Vektörlerde çıkarma işlemi yapılırken çıkarılacak olan vektörün yönü ters çevrilir ve uç uca ekleme yöntemi uygulanır.

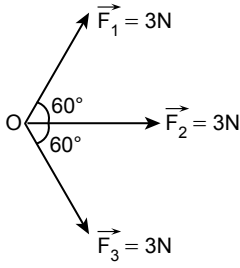


Buna göre, $\vec{K} - \vec{L}$ vektörünün büyüklüğü kaç birimdir?

- A) 0 B) 1 C) $\sqrt{2}$ D) 2

1. OTURUM

3. O noktasal cismine etki eden, ($|\vec{F}_1| = |\vec{F}_2| = |\vec{F}_3| = 3\text{ N}$) olan kuvvetler şekildeki gibidir.

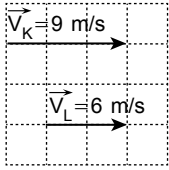


Buna göre bileşke kuvvetin büyüklüğü kaç N'dur?

$$\left(\sin 60^\circ = \frac{\sqrt{3}}{2} \text{ ve } \cos 60^\circ = \frac{1}{2} \right)$$

- A) 3 B) 6 C) 9 D) 12

4. Bağıl hız vektörünün yönü gözlemcinin hız vektörünün tersi ile gözlenen hareketlinin hız vektörünün vektörel toplamı ile bulunur.



Buna göre şekilde hız vektörleri verilen K ile L hareketlerinin birbirlerine göre bağıl hızlarının büyüklüğü kaç m/s'dir?

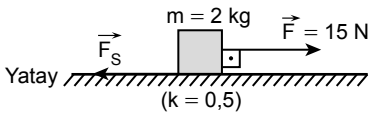
- A) 3 B) 6 C) 9 D) 12

5. Akıntı hızının sabit ve 1 m/s olduğu nehirde bir yüzücü suya göre 3 m/s sabit hızla aynı yönde yüzüyor.

Buna göre yüzücünün yere göre hızının büyüklüğü kaç m/s'dir?

- A) 1 B) 2 C) 4 D) 6

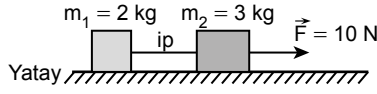
6. Sürtünme kuvvetinin maksimum değeri $F_s = kN$ bağıntısı ile bulunur. (N: tepki kuvveti, $N = mg$)



Buna göre sürtünme katsayısı $k = 0,5$ olan yatay düzlemde şekildeki $m = 2\text{ kg}$ kütleli cisme etki eden net kuvvetin büyüklüğü kaç N'dur? ($g = 10\text{ N/kg}$)

- A) 0 B) 5 C) 10 D) 15

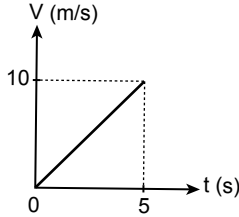
7. Sürtünmesi önemsiz yatay düzlemde $m_1 = 2\text{ kg}$ ve $m_2 = 3\text{ kg}$ kütleler şekildeki gibi iple bağlanıp $\vec{F} = 10\text{ N}$ kuvvetle çekiliyor.



Buna göre sistemin ivmesinin büyüklüğü kaç m/s^2 dir?

- A) 2 B) 3 C) 4 D) 5

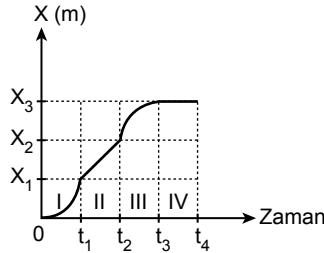
8. Şekildeki grafik +x yönünde hareket eden bir aracın hız-zaman grafiğidir.



Buna göre araç (0 - 5) zaman aralığında kaç metre yer değiştirmiştir?

- A) 10 B) 25 C) 40 D) 50

9. Şekildeki grafik +x yönünde hareket eden bir arabaya ait konum-zaman grafiğidir.



Buna göre hangi zaman aralığında bu araba hareket etmeyip durmuştur?

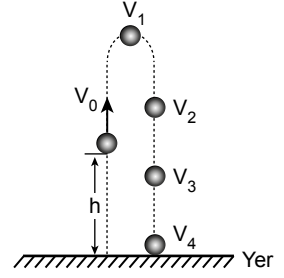
- A) I ($0 - t_1$) B) II ($t_1 - t_2$)
C) III ($t_2 - t_3$) D) IV ($t_3 - t_4$)

10. Sürtünmelerin önemsiz olduğu ortamda bir futbol topu yerden yüksekliği 80 m olan bir binanın teras katından aşağıya serbest bırakılıyor.

Buna göre futbol topunun yere çarpma süresi kaç saniyedir? ($h = \frac{1}{2}gt^2$ ve $g = 10\text{ m/s}^2$)

- A) 1 B) 2 C) 4 D) 10

11. Şekildeki m kütleli cisim h yüksekliğinden V_0 ilk hızıyla fırlatılıyor.



Buna göre, cismin hareketi sırasında gösterilen V_1, V_2, V_3 ve V_4 hızlarından hangisinin hız büyüklüğü en fazladır?

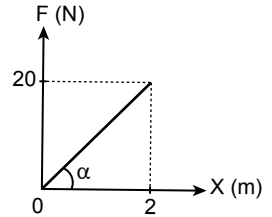
- A) V_1 B) V_2 C) V_3 D) V_4

12. Bir futbol topu yatayla α° açısı yapacak şekilde V_0 hızıyla eğik olarak fırlatılıyor.

Buna göre atılan topun menzilin en fazla olması için top, aşağıdaki hangi α açısı ile atılmalıdır?

- A) 30° B) 45° C) 60° D) 90°

13. Sarmal yaya uygulanan kuvvetin büyüklüğü, uzama miktarına bağlı değişim grafiği şekildeki gibidir.



Kuvvetin büyüklüğü $F = k \cdot x$ bağıntısı ile bulunduğu göre sarmal yayın, yay sabiti kaç N/m'dir?

- A) 10 B) 15 C) 20 D) 40

14. Sürtünmeli yatay düzlemde 2 kg kütleli bir cisim $V_0 = 20\text{ m/s}$ yatay hızla fırlatılıyor. Cisim 30 metre yer değiştirdikten sonra duruyor.

Buna göre sürtünme ile kaybolan toplam mekanik enerji kaç Joule'dür?

- A) 100 B) 200 C) 300 D) 400

1. OTURUM

15. Momentumun değişimi vektörel bir büyüklüktür. $\Delta \vec{P} = \vec{P}_2 - \vec{P}_1$ bağıntısı ile bulunur. Yatay doğrultuda 3V hızına sahip m kütleli tenis topu duvara çarpıyor ve aynı doğrultuda 2V hızıyla geri dönüyor.

Buna göre tenis topunun momentum değişim büyüklüğü kaç $m \cdot V$ 'dir?

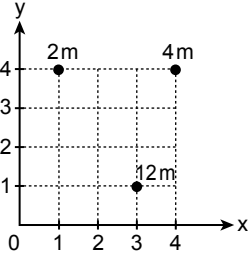
- A) 2 B) 3 C) 5 D) 6

16. Kuvvetin bir cismi bir eksen etrafında döndürme etkisi, $\vec{\tau} = \vec{F} \cdot d \cdot \sin \theta$ bağıntısı ile hesaplanır.

Buna göre $\vec{\tau}$ aşağıdaki hangi fiziksel büyüklüktür?

- A) Hız B) İvme
C) Ağırlık D) Tork

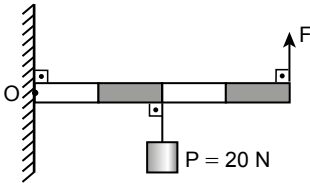
17. Şekildeki koordinat sisteminde 2m, 4m ve 12m kütleli cisimler bulunmaktadır.



Buna göre bu cisimlerin kütle merkezi (x, y) aşağıdakilerden hangisidir?

- A) (1, 1) B) (2, 2)
C) (3, 2) D) (3, 3)

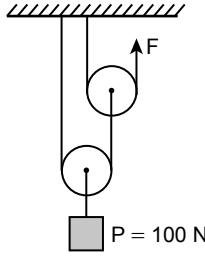
18. Şekildeki düzgün türdeş çubuğun ağırlığı 30 N'dur. Çubuğa şekildeki gibi 20 N'luk cisim asılıyor.



Buna göre çubuğu yatay dengede tutan F kuvveti kaç N'dur?

- A) 20 B) 25 C) 30 D) 40

19.



Makara ağırlıkları ve sürtümleri ihmal edilen şekildeki makara sisteminde $P = 100$ N yükü, F kuvveti ile dengede tutmaktadır.

Buna göre F kuvvetinin büyüklüğü kaç N'dur?

- A) 25 B) 50 C) 75 D) 100

20. Amacına uygun olarak kullanıldığında aşağıdaki basit makinelerden hangisinde kuvvetten kazanç sağlanır?

- A) El arabası B) Maşa
C) Cımbız D) Sabit makara

(432) KİMYA – 2

1. Kimyasal türler genel olarak atom, molekül ve iyon olarak sınıflandırılmaktadır.

Buna göre aşağıdakilerin hangisinde bu türlerin doğru örnekleri verilmiştir?

Atom	Molekül	İyon
A) He	CO ₂	F ⁻
B) N ₂	Ca	SO ₄ ²⁻
C) Fe	H ₂	CH ₄
D) O ²⁻	CO ₃ ²⁻	Cl ₂

2. Kimyasal türler arasındaki etkileşimler, bağın gücüne göre sınıflandırıldığında güçlü ve zayıf etkileşimler olarak ikiye ayrılır.

Buna göre aşağıdakilerden hangisi diğerlerinden farklı bir sınıfa ait etkileşimdir?

- A) İyonik bağ
B) Kovalent bağ
C) Hidrojen bağı
D) Metalik bağ

3. ²⁰Ca ve ¹⁷Cl elementlerinden oluşan CaCl₂ bileşiğinin Lewis elektron nokta formülü hangi seçenekte doğru verilmiştir?

- A) Cl :Ca: Cl : B) $[Ca]^{2+} 2 [Cl:]^{-}$
C) Ca :Cl: D) $[Ca]^{2+} [Cl:]^{-}$

4. Kalsiyum sülfür olarak adlandırılan bileşik aşağıdakilerden hangisidir?

- A) K₂S B) CaSO₄
C) K₂SO₄ D) CaS

5. Atomları arasında polar kovalent bağ bulunduğu hâlde, molekülü apolar yapıda olan bileşiklere aşağıdakilerden hangisi örnek olarak verilebilir?

- A) $\ddot{O}=\ddot{O}$ B) $\begin{array}{c} \cdot\ddot{O}\cdot \\ \diagdown \quad \diagup \\ H \quad H \end{array}$
C) $\begin{array}{c} \cdot\ddot{N}\cdot \\ \diagdown \quad \diagup \\ H \quad H \end{array}$ D) $\ddot{O}=\ddot{C}=\ddot{O}$

6. Aşağıdaki bileşiklerden hangisi kovalent bileşiklerin adlandırılmasında kullanılan kurallara göre hatalıdır?

- A) H₂O → Dihidrojen monoksit
B) CO → Karbon monoksit
C) SO₃ → Kükürt pentaoksit
D) N₂O₄ → Diazot tetraoksit

7. Aşağıdaki elementlerden hangisinin kendi atomlarını bir arada tutan bağ diğerlerinden farklıdır?

- A) ₁H B) ₃Li C) ₇N D) ₁₇Cl

8. Aşağıdaki Van der Waals etkileşimlerinden hangisi polar moleküller arasında oluşan etkileşimdir?

- A) Dipol - dipol
B) İyon - dipol
C) Dipol - indüklenmiş dipol
D) İyon - indüklenmiş dipol

1. OTURUM

9. Moleküller arasında (- - -) ile gösterilen aşağıdaki etkileşimlerden hangisi hidrojen bağıdır?

- A) N_2 - - - - N_2
 B) CH_4 - - - - CH_4
 C) NH_3 - - - - NH_3
 D) H_2S - - - - H_2S

10. $H_2(g) + 1/2 O_2(g) \rightarrow H_2O(s)$

Verilen tepkime ile ilgili aşağıdaki ifadelerden hangisi yanlıştır?

- A) Fiziksel bir değişimdir.
 B) Su molekülü oluşumunu gösterir.
 C) Kimyasal türlerin yapısı değişmiştir.
 D) Hidrojenin yanma tepkimesidir.

11. Maddenin fiziksel hâlleriyle ilgili aşağıdaki ifadelerden hangisi doğrudur?

- A) Sıvı hâldeki maddelerin belirli hacimleri yoktur.
 B) Maddenin plazma hâlinde tanecikler serbest hareket eder.
 C) Maddenin en düzensiz hâli katıdır.
 D) Gaz hâldeki maddelerin belirli şekilleri vardır.

12. Kristal katı türlerine ait bazı örnekler aşağıda verilmiştir.

- Elmas
- Sofra tuzu
- Demir

Buna göre örneği bulunmayan katı türü aşağıdakilerden hangisidir?

- A) Metalik katı
 B) İyonik katı
 C) Moleküler katı
 D) Kovalent katı

13. Sıcaklık arttıkça viskozite ...I...
 Tanecikler arası etkileşim arttıkça viskozite ...II...

Verilen cümlelerde numaralandırılmış yerlere aşağıdakilerden hangisi yazılmalıdır?

	I	II
A)	artar	artar
B)	değişmez	azalır
C)	azalır	artar
D)	azalır	değişmez

14. Havanın - - - - sıcaklığı gölgede termometre ile okunan değerdir. - - - - sıcaklık ise hava sıcaklığına, bağıl neme ve rüzgâr hızına bağlı olarak insanlar tarafından algılanan sıcaklık değeridir.

Verilen cümlelerdeki boşluklara sırasıyla aşağıdakilerden hangisi getirilmelidir?

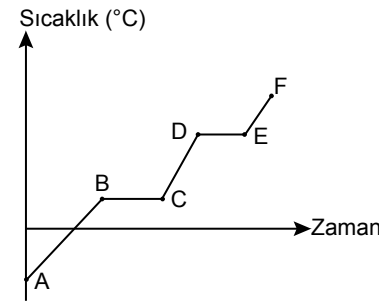
- A) gerçek / Hissedilen
 B) hissedilen / Gerçek
 C) yüksek / Bağıl
 D) bağıl / Yüksek

15. Gazlar basınç, sıcaklık, hacim ve miktara göre tanımlanır. Örneğin miktarı 1 () olan gaz 1 () basınçta ve 0 () sıcaklıkta 22,4 () hacim kaplar.

Buna göre ayraç ile gösterilen yerlere aşağıdaki birimler hangi sıra ile getirilmelidir?

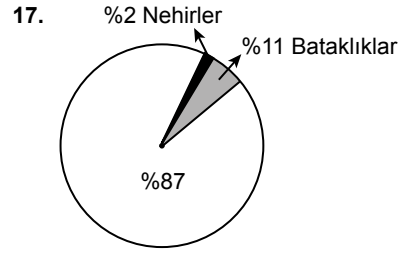
- A) (atm) (mol) (°C) (L)
 B) (mol) (atm) (°C) (L)
 C) (L) (mol) (atm) (°C)
 D) (mol) (L) (°C) (atm)

16. Saf bir maddenin sıcaklık - zaman grafiği aşağıda verilmiştir.



Buna göre aşağıdakilerden hangisi doğrudur?

- A) A noktasında madde sıvıdır.
 B) B - C aralığında madde en düzensiz hâledir.
 C) C - D aralığında erime gerçekleşmektedir.
 D) E - F aralığında madde gaz hâlinindedir.



Yeryüzeyinde bulunan tatlı yüzey suyu kaynakları grafikte oransal olarak gösterilmiştir.

Buna göre en büyük orana sahip olan tatlı yüzey suyu aşağıdakilerden hangisidir?

- A) Göller B) Buzullar
 C) Denizler D) Okyanuslar

18. Havadaki su buharıyla birleşerek asit yağmurlarına sebep olabilecek gaz aşağıdakilerden hangisidir?

- A) NO_2 B) N_2 C) O_2 D) H_2O

19. Aşağıdakilerden hangisi su ve toprağı etkileyen kimyasal kirleticilerden biri değildir?

- A) Endüstriyel atıklar
 B) Ağır metaller
 C) Deterjanlar
 D) Cam maddeler

20. Çevreye ve atmosfere zarar veren maddelerin kullanımı ile ilgili,

- I. fabrika bacalarına filtre takılması,
- II. fosil yakıt kullanımı artırılması,
- III. çöplerin geri dönüşümü yaygınlaştırılması,
- IV. ozon tabakasına zarar veren gazlar kullanılmaması

verilenlerden hangileri çözüm önerileridir?

- A) I ve III. B) I ve IV.
 C) II ve III. D) II ve IV.

(436) SEÇMELİ KİMYA - 2

1. Aşağıdaki olaylardan hangisi ısı alınması veya verilmesine göre diğerlerinden farklıdır?

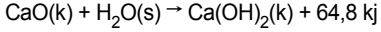
- A) Buzun erimesi
 B) Doğal gazın yanması
 C) Şekerin suda çözünmesi
 D) Alkolün buharlaşması

2. Aşağıdaki elementlerden hangisinin gaz hâlinde standart oluşum entalpisi sıfır kabul edilir?

- A) O_2 B) I_2 C) Fe D) Au

1. OTURUM

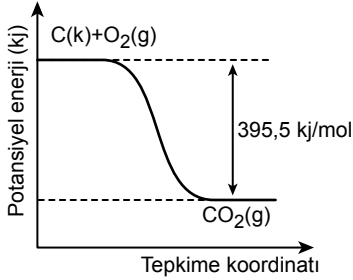
3. Sönmemiş kirecin su ile tepkimesi aşağıda verilmiştir.



Buna göre 2 mol sönmemiş kirecin yeterli miktarda su ile tepkimesinden açığa çıkan ısının kJ cinsinden değeri aşağıdakilerden hangisidir?

- A) 32,4 B) 64,8
C) 97,2 D) 129,6

4. 1 mol CO₂ gazının standart koşullardaki oluşum reaksiyonuna ait potansiyel enerji – tepkime koordinatı grafiği verilmiştir.

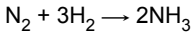


Buna göre aşağıdakilerden hangisi doğrudur?

- A) CO₂ gazının potansiyel enerjisi tepkimeye girenlerden daha fazladır.
B) Tepkime entalpisi –395,5 kJ'dür.
C) Tepkime endotermik bir tepkimedir.
D) 1 mol CO₂ gazı oluşması için 395,5 kJ ısı gereklidir.

5. Amonyak gazının oluşum entalpisi bağ enerjileri kullanılarak aşağıdaki gibi hesaplanmıştır. (BE: bağ enerjisi)

$$\Delta H^\circ_{\text{tepk.}} = [946 \text{ kJ} + (3 \times 436) \text{ kJ}] - 2 \times (3 \times 391) \text{ kJ} = -92 \text{ kJ}$$

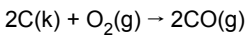


Buna göre aşağıdakilerden hangisi yanlıştır?

- A) $\sum \text{BE}_{\text{girenler}} - \sum \text{BE}_{\text{ürünler}} = -92 \text{ kJ}$
B) $\sum \text{BE}_{\text{kırılan bağlar}} < \sum \text{BE}_{\text{oluşan bağlar}}$
C) $\text{BE}_{\text{N} \equiv \text{N}} = 391 \text{ kJ}$
D) $\text{BE}_{\text{H}-\text{H}} = 436 \text{ kJ}$

6. $\text{C}(k) + \text{O}_2(g) \rightarrow \text{CO}_2(g) \quad \Delta H_{\text{tepk.}} = X \text{ kJ}$
 $2\text{CO}(g) + \text{O}_2(g) \rightarrow 2\text{CO}_2(g) \quad \Delta H_{\text{tepk.}} = Y \text{ kJ}$

Verilen tepkime entalpilerinden yararlanılarak



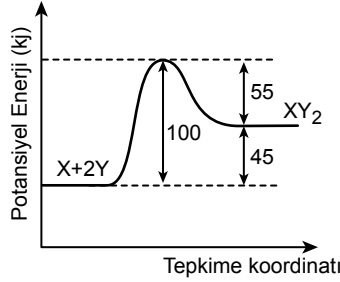
tepkimesinin entalpisi X ve Y cinsinden aşağıdakilerden hangisidir?

- A) $2X + Y$ B) $2X - Y$
C) $X + Y$ D) $Y - X$

7. **Kimyasal bir tepkimenin gerçekleşmesi için aşağıdakilerden hangisi gerekli değildir?**

- A) Taneciklerin yeterli kinetik enerji ile çarpışması
B) Taneciklerin uygun doğrultuda çarpışması
C) Taneciklerin katalizör ile etkileştirilmesi
D) Taneciklerin aktif çarpışma yapması

8.



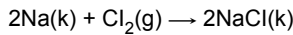
Verilen grafiğe göre aşağıdakilerden hangisi doğrudur?

- A) Aktivasyon enerjisi 100 kJ'dür.
B) Tepkime entalpisi 55 kJ'dür.
C) Tepkimede 45 kJ ısı açığa çıkar.
D) Tepkime ekzotermiktir.

9. **Aşağıdaki reaksiyonları homojen ya da heterojen faz tepkimesi olarak belirttiğimizde hangi tepkime diğerlerinden farklıdır?**

- A) $\text{C}(k) + \text{O}_2(g) \rightarrow \text{CO}_2(g)$
B) $\text{NH}_3(g) + \text{HCl}(g) \rightarrow \text{NH}_4\text{Cl}(k)$
C) $\text{H}_2(g) + \text{Cl}_2(g) \rightarrow 2\text{HCl}(g)$
D) $2\text{H}_2(g) + \text{O}_2(g) \rightarrow 2\text{H}_2\text{O}(s)$

10. **Sabit hacimli kaptan tek basamakta gerçekleşen**



tepkimesinin hızını azaltmak için aşağıdakilerden hangisi yapılmalıdır?

- A) Sıcaklığını azaltmak
B) Na metalini daha küçük parçalı kullanmak
C) Uygun katalizör kullanmak
D) Tepkime kabına Cl₂ gazı eklemek

11. Tabloda A ve B gazları arasında gerçekleşen bir tepkimenin deney sonuçları verilmiştir.

Deney No	[A] (mol/L)	[B] (mol/L)	Tepkime hızı (mol/L.s)
1	0,1	0,3	1×10^{-4}
2	0,2	0,3	4×10^{-4}
3	0,2	0,6	4×10^{-4}

Buna göre hız bağıntısı aşağıdakilerden hangisidir?

- A) Hız = $k \times [A]$
B) Hız = $k \times [A]^2$
C) Hız = $k \times [A][B]$
D) Hız = $k \times [A]^2[B]$

12. **Kimyasal tepkimelerde gerçekleşebilen denge durumu ile ilgili aşağıdakilerden hangisi yanlıştır?**

- A) Sabit sıcaklıkta olur.
B) Kapalı sistemlerde gerçekleşir.
C) Tersinir tepkimeler için geçerlidir.
D) İleri ve geri tepkime hızları farklıdır.

13. $2\text{N}_2\text{O}_5(g) \rightleftharpoons \text{O}_2(g) + 4\text{NO}_2(g)$

tepkimesi dengede iken O₂ ve NO₂ gazlarının kısmi basınçları sırasıyla 1,5 ve 2 atmosferdir.

Basınçlar cinsinden denge sabiti

K_p = 6 olduğuna göre dengedeki sistemde N₂O₅ gazının basıncı kaç atmosferdir?

- A) 2 B) 4 C) 6 D) 8

14. $\text{CO}(g) + 3\text{H}_2(g) \rightleftharpoons \text{CH}_4(g) + \text{H}_2\text{O}(g) + 206 \text{ kJ}$

Verilen denge tepkimesine aşağıdakilerden hangisi yapılırsa denge ürünler yönüne kayar?

- A) Tepkime kabına H₂ gazı eklemek
B) Tepkime kabına CH₄ gazı eklemek
C) Sıcaklığı arttırmak
D) Kaptan CO gazını eksiltmek

15. **25 °C'ta H⁺ iyonları derişimi 10⁻⁶ M olan çözelti ile ilgili aşağıdakilerden hangisi doğrudur?**

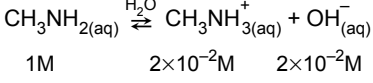
- A) Çözelti baziktir.
B) $[\text{OH}^-] = 10^{-8} \text{ M}$ 'dir.
C) pH = 8'dir.
D) pOH < pH

1. OTURUM

16. HCO_3^- iyonunun konjuge asidi aşağıdakilerden hangisidir?

- A) H_2O B) H_3O^+
C) H_2CO_3 D) CO_3^{2-}

17. Metilamin (CH_3NH_2) bileşiği zayıf baz olup bir çözeltideki taneciklerinin denge derişimleri aşağıda verilmiştir.



Buna göre metilaminin bazlık sabiti (K_b) kaçtır?

- A) 1×10^{-4} B) 2×10^{-4}
C) 3×10^{-4} D) 4×10^{-4}

18. Kuvvetli asitler: HNO_3 , H_2SO_4

Zayıf asit: CH_3COOH

Kuvvetli baz: NaOH

Zayıf baz: NH_3

Verilen maddelerden hangilerinin tepkimesi ile oluşacak tuzun pH değerinin gösterimi yanlıştır?

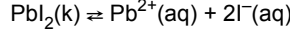
- A) NaOH ve HNO_3 pH > 7
B) NH_3 ve HNO_3 pH < 7
C) NaOH ve H_2SO_4 pH = 7
D) NaOH ve CH_3COOH pH > 7

19. Canlı organizmalarda olduğu gibi birçok endüstriyel işlem de belirli pH değerlerinde gerçekleştirilebilmektedir. Örneğin ipliklerin boyanması, metal boyama gibi işlemler - -★- - çözeltilerde gerçekleştirilir. Şampuanın pH'ını sabit tutmak için de - -★- - çözeltiler kullanılır. Benzer şekilde marketteki meyve sularının ekşiliğini belirli seviyede tutmak için sitrik asit ve bunun tuzunun oluşturduğu - -★- - çözeltisi kullanılır.

Verilen paragrafta ★ sembolü ile gösterilen kelime aşağıdakilerden hangisidir?

- A) derişik B) seyreltik
C) bazik D) tampon

20. Suda çözünme tepkimesi



şeklinde olan kurşun iyodür tuzunun çözünürlük çarpımı ifadesi aşağıdakilerin hangisinde doğru verilmiştir?

- A) $K_{\text{ÇÇ}} = [\text{Pb}^{2+}] [\text{I}^-]$
B) $K_{\text{ÇÇ}} = [\text{Pb}^{2+}] [2\text{I}^-]$
C) $K_{\text{ÇÇ}} = [\text{Pb}^{2+}]^2 [\text{I}^-]$
D) $K_{\text{ÇÇ}} = [\text{Pb}^{2+}] [\text{I}^-]^2$

(441) BİYOLOJİ – 1

1. Aşağıdaki yapılardan hangisi canlıdır?

- A) Hücre duvarı B) Sentirol
C) Bakteri D) Çekirdek

2. "Tüm canlılar hücre ve hücrelerden meydana gelir." cümlesinde tekil hücre ve çoğul hücreler ifadelerinin birlikte kullanılmasının temel nedeni aşağıdakilerden hangisidir?

- A) Canlıların çoğunun çok hücreli olması
B) Hastalık yapan canlıların büyük kısmının bir hücreli olması
C) Yüksek çeşitlilikle hücresel yapının bulunması
D) Var olan canlıların bazılarının bir, bazılarının çok hücreli olması

3. Bir yapının canlı olduğuna karar vermek için aşağıdakilerden hangisine sahip olması tek başına yeterli kanıt oluşturmaz?

- A) Hareket etmesi
B) Hücresel solunum yapması
C) Eşeyli üremesi
D) Boşaltımla homeostasiyi sağlaması

4. Metabolizma, canlının bütün yapım ve yıkım olaylarının toplamı olarak ifade edilebilir.

Buna göre aşağıdaki olaylardan hangisi diğerlerinden farklı bir metabolik kategoridedir?

- A) Glikozun hücre solunumuna girmesi
B) Fazla tüketilen şekerin yağ olarak depolanması
C) Nişastanın tükürük etkisiyle sindirilmesi
D) Karaciğerde depo glikojenin glikozlara çevrilerek kana verilmesi

5. Aşağıdaki madde gruplarından hangisi insanda enerji verici olarak kullanılmaz?

- A) Mineraller B) Lipidler
C) Proteinler D) Şekerler

6. Suyun hangi özelliği; canlıların yaşadığı ortamın aniden ısınıp aniden soğumasıyla ortaya çıkacak şok etkisinin oluşmasını önler?

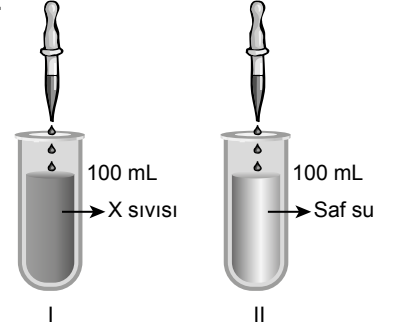
- A) Kaynama sıcaklığı dışında buharlaşabilmesi
B) Sıcaklığına bağlı özkütlesinin değişmesi
C) Adhezyon ve kohezyon kuvvetleriyle hareket davranışlarının düzenlenmesi
D) Özgül ısısının yüksek olması

7. I. Saf su
II. Organik bileşikler
III. Mide özsu

Yukarıdakilerden hangileri asidik özellikte olabilir?

- A) Yalnız I. B) Yalnız II.
C) I ve II. D) II ve III.

8.



Asidik bir çözelti eşit miktarlarda içerisinde pH'ları 7 olan X sıvısı ve saf su bulunan deney tüplerine dökülüyor ve pH değişimleri takip ediliyor.

I. tüpteki X sıvısının pH değişiminin, II. tüpteki suyun pH değişiminden çok daha az olduğu görülüyor.

Bu durumun temel nedeni nedir?

- A) X sıvısının pH değişimine daha dirençli olması
B) Saf suyun bazik olması
C) Saf suya asit çözeltisinin daha hızlı boşaltılması
D) X sıvısı ve saf suyun başlangıç pH değerlerinin farklı olması

9. Aşağıdakilerden hangisi bir karbonhidrat çeşidi değildir?

- A) Glikoz B) Galaktoz
C) Oleik asit D) Nişasta

1. OTURUM

10. Tabloya bulunduğu canlı ve temel işlevleri bakımından polisakaritler yerleştirilmiştir.

Canlı / Görev	I	II
	III	Selüloz
IV	Nişasta	Glikojen

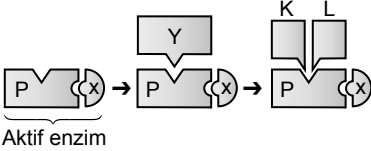
Buna göre numaralandırılmış yerlere hangi kelimeler yazılmalıdır?

- | | I | II | III | IV |
|--------------|-----------|-----------|-----------|----|
| A) Depo | Bitkisel | Hayvansal | Yapısal | |
| B) Bitkisel | Hayvansal | Yapısal | Depo | |
| C) Hayvansal | Yapısal | Depo | Bitkisel | |
| D) Yapısal | Depo | Bitkisel | Hayvansal | |

11. Kıvrıkcık saçlı bir insanın sıcak saç düzleştiricisiyle saçını düzleştirilmesi (X) ve zamanla saçının eski kıvrıkcık hâline dönmesi (Y) olayları aşağıdakilerden hangisinde doğru verilmiştir?

- | X | Y |
|-----------------|--------------|
| A) Sindirim | Dehidrasyon |
| B) Renatürasyon | Denatürasyon |
| C) Dehidrasyon | Sindirim |
| D) Denatürasyon | Renatürasyon |

12. Şekilde enzimatik bir kimyasal olay şematize edilmiştir.



Burada bulunan "P" protein kısmı gösterdiğine göre verilen olay ve yapılar için aşağıdakilerden hangisi yanlıştır?

- A) X bir koenzim olabilir.
 B) Y substrattır.
 C) K ve L ürünlerdir.
 D) Olay sonrası enzim aktifliğini kaybetmiştir.
13. ATP molekülleri hücrenin şarj edilmiş pilleri gibi çalışarak enerji ihtiyacı olan olaylara enerji taşır.
 İnsanda bu molekülle ilgili olarak aşağıdaki bilgilerden hangisi doğrudur?
 A) Sürekli üretilip sürekli tüketilir.
 B) Depo edilebilir.
 C) ATP üreten hücrelerden üretmeyenlere taşınır.
 D) Sindirimle üretilir.

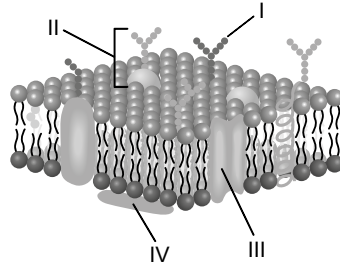
14. Aşağıdakilerden hangisi hücre teorisinin özelliklerinden biri değildir?

- A) Hücrelerin başka hücrelerin bölünmesiyle oluşması
 B) Tüm hücrelerin çekirdek tarafından yönetilmesi
 C) Tüm canlıların hücresel yapıya sahip olması
 D) Metabolizma olaylarının hücreler tarafından gerçekleştirilmesi

15. Aşağıdaki yapılardan hangisi hem ökaryot hem prokaryot hücrelerde ortak olarak bulunabilir?

- A) Pilus
 B) Koful
 C) DNA
 D) Mitokondri

16. Aşağıda hücre zarının akıcı mozaik modeli şematize edilmiştir.



Hangi numarayla gösterilen yapı, zardan madde geçişini gerçekleştirir?

- A) I B) II C) III D) IV

17. Ökaryot, bir hücreli canlının sitoplazması aşağıdaki yapılardan hangisini içermez?

- A) Çekirdek
 B) Su
 C) Mitokondri
 D) Ribozom

18. Aşağıdakilerden hangisi lizozomun görevidir?

- A) Hücre dışına enzim boşaltmak
 B) ATP üretmek
 C) Embriyonik dönemde ölmesi gereken hücrelerin ölmesini sağlamak
 D) Hücre zarının yapısına katılacak maddeleri taşımak

19. Bir amip hücresinin içerisinden diğer yapılara zarar vermeden tüm Golgi yapıları çıkartılmıştır.

Buna göre bu hücrede aşağıdaki işlevlerden ilk olarak hangisinin gerçekleşemediği gözlenir?

- A) Protein sentezi
 B) Paketleme
 C) Sindirim
 D) Yağ sentezi

20. Normal bir insan hücresi genç evresinde tek çekirdekli iken büyüdükçe çekirdek bölünmesi gerçekleştirip kendisi bölünmemiştir.

Bu olaya ilişkin aşağıdaki çıkarımlardan hangisi yapılamaz?

- A) İnsanda birden fazla çekirdeğe sahip hücreler bulunabilir.
 B) Çok çekirdekli hücreler iki kat uzun yaşar.
 C) Bazı hücreler bölünmeden genetik materyalini çoğaltabilir.
 D) Hücrelerin büyümesi, çekirdeğin bölünmesi için tetikleyici etki oluşturabilir.

(443) BİYOLJİ – 3

1. Canlıların büyüme ve gelişme süreciyle ilgili olarak verilen;

- bitki embriyosundan ağacın meydana gelmesi,
- insan üreme sisteminde gametlerin üretilmesi,
- yaralanan vücut bölgesinin onarılması

olayları aşağıdakilerin hangisi sayesinde gerçekleştirilir?

- A) Hücre bölünmeleri
 B) Hücre göçleri
 C) Hücre farklılaşması
 D) Programlanmış ölümler

2. Hem ökaryotik hem prokaryotik hücrelerde hücre bölünme sürecini aşağıdakilerden hangisi yönetir?

- A) Çekirdek
 B) DNA
 C) Hücre zarı
 D) Ribozom

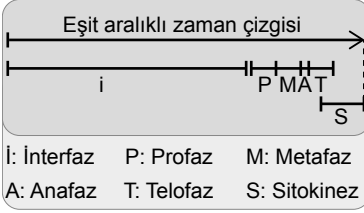
3. Genç hücreler yaşam devirlerinde ilerledikçe büyüyerek hacimsel artış yaşar. Bu süreçte küçük hâllerine göre hücre yönetimi zorlaşır, madde alışveriş verimliliği düşer.

Bu durumu açıklayan terim aşağıdakilerden hangisidir?

- A) Yüzey alanının artması
 B) Hacim oranının azalması
 C) Hacim / yüzey oranının sabit kalması
 D) Yüzey / hacim oranının küçülmesi

1. OTURUM

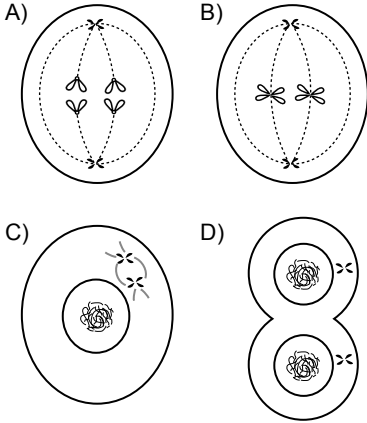
4. Şekilde bir hayvan hücresine ait mitotik yaşam döngüsünün zaman çizelgesi verilmiştir.



Buna göre aşağıdaki yorumlardan hangisi yanlıştır?

- A) Döngünün en uzun safhası inter-fazdır.
B) Döngünün en kısa safhası anafazdır.
C) Telofaz ve sitokinez süreçleri birbiriyle çakışır.
D) Metafaz tamamlanmadan anafaz başlayabilir.

5. Aşağıdaki mitoz çizimlerinden hangisi anafaz safhasına aittir?



6. Kromozomların büyüklüğüne ve biçimine göre, hücre kromozom çiftlerini dizerek gösterme yöntemi olan karyotip analizinde, aşağıdakilerden hangisi hakkında bilgi edinilemez?

- A) Kromozom eksikliği
B) Kromozom şekil bozukluğu
C) Üretilebilecek protein çeşitliliği
D) Kromozom fazlalığı

7. Aşağıdakilerden hangisi insanda kanser hastalıkları ile ilişkili değildir?

- A) Metastaz
B) Hücre plağı
C) Kontrolsüz hücre bölünmesi
D) Kemoterapi

8. Aşağıdakilerden hangisi yüksek yapılı bitki ve hayvan hücrelerinin bölünmesinde ortak gerçekleşir?

- A) İğ ipliği oluşması
B) Boğumlanmanın gözlenmesi
C) Yeni hücre duvarı üretilmesi
D) Sentiollerin görev yapması

9. Maya mantarlarının eşeysiz üreme yöntemi olan tomurcuklanma olayında aşağıdakilerden hangisi gözlenemez?

- A) Kalıtım materyalinin iki katına çıkartılması
B) Ana hücreye bağlı koloniler oluşması
C) Yavru hücresinin ana hücresinden farklı büyüklükte olması
D) Genetik çeşitliliğin artması

10. Canlının bir parçasının ana canlıdan kopmasıyla yeni bir canlının oluşması durumu hem hayvan hem bitkilerde eşeysiz üremeyi gerçekleştirebilmektedir.

Bu durumun bitki ve hayvandaki adları aşağıdakilerin hangisinde doğru olarak verilmiştir?

Bitki	Hayvan
A) Vejetatif	Rejenerasyon
B) Tomurcuklanma	Partenogenez
C) Döl almaşı	Vejetatif
D) Rejenerasyon	Döl almaşı

11. Bahçecilik ve tarım sektöründe ticareti yapılan bitkilerin üretilip yetiştirme sürecinde eşeyli üremeye göre bazı durumlarda eşeysiz üreme tercih edilir.

Buna göre aşağıdakilerden hangisi eşeysiz üremenin tercih edilme nedenlerinden biri olabilir?

- A) Yeni bireylerin ata bireyden daha sağlıklı olması
B) Varolan yüksek verimin değişmeden yeni nesilde de aynen korunması
C) Hastalıklara daha dirençli soylar elde edilmesi
D) Değişen çevre koşullarına uyumun artması

12. Aşağıdakilerden hangisi hem mitoz hem mayoz da görülebilir?

- A) Bölünme sonucu iki hücrenin oluşması
B) Üremenin gerçekleştirilmesi
C) Kromozom sayısının yarıya inmesi
D) Çekirdeğin iki kez bölünmesi

13. İnsanda mayozla gamet üretme sürecinde sırasıyla hücrenin DNA'sının eşlendiği ve kromozom sayısının yarıya indiği safhalar aşağıdakilerden hangisinde doğru olarak verilmiştir?

- A) İnterfaz - Anafaz I
B) Profaz - Anafaz II
C) İnterfaz - Sitokinez I
D) Profaz - Sitokinez II

14. Aşağıdakilerden hangisi mayozun ortaya çıkardığı durumlardan değildir?

- A) Genetik bakımdan birbirinden farklı olan gametlerin oluşması
B) Tür içinde kromozom sayısının sabit kalmasının sağlanması
C) Ana hücreyle gametlerin aynı çekirdek niteliği taşıması
D) Homolog kromozomların farklı gametlere dağıtılması

15. Bir hastaya; doktorla görüşmesi sürecinde bahsi geçen hastalığın birinci derece akrabaları ve soy ağacındaki kişilerde bulunup bulunmadığı sorulmuştur.

Bu soru hastalığın hangi özelliğini araştırmak için sorulmuştur?

- A) Kalıtsallığı
B) Ölümcüllüğü
C) Geçiciliği
D) Sürekliliği

16. Heterozigot genotipli uzun boylu bezelye bitkilerinin çaprazlanması sonucu elde edilen 400 tohumun kaçının çimlenmesiyle oluşan bitkilerin kısa boylu olması beklenir?

(Uzun boyluluk kısa boyluluğa baskındır.)

- A) 400 B) 300 C) 200 D) 100

1. OTURUM

(446) SEÇMELİ BİYOLOJİ – 2

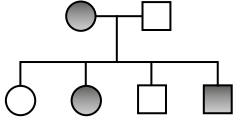
17. Kalıtsal bir hastalık olan Akdeniz anemisi görülen bir toplulukta bu hastalığın ortaya çıkma ihtimali aşağıdakilerden hangisinde normalden daha yüksek olur?

- A) Karakterin eşeye bağlı kalıtılması
B) Alellerin eşit olasılıkla ayrılması
C) Akriba evliliğinin yaygın olması
D) Hastalığın öldürücü olabilmesi

18. Abe fenotipindeki bir bitkinin genotipini belirlemek için aşağıda genotipleri verilen bitkilerden hangisi kontrol çaprazlamasında kullanılabilir?

- A) AAbbce B) AABBee
C) aabbEE D) AABBEe

19. Soy ağacında bir karakterin belirli bir özelliğini fenotipinde gösteren bireyler koyu renkle işaretlenmiştir.

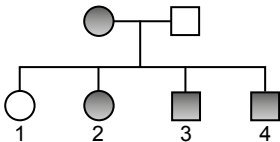


- : Özelliği göstermeyen dişi
● : Özelliği gösteren dişi
□ : Özelliği göstermeyen erkek
■ : Özelliği gösteren erkek

Bu fenotipin ortaya çıkmasını sağlayan alel aşağıdaki kalıtsal durumlardan hangisiyle aktarılıyor olamaz?

- A) Otozomal baskın
B) Otozomal çekinik
C) ABO kan grubu
D) X üzerinde çekinik

20. Soy ağacında X kromozomunda çekinik aktarılan bir hastalığı fenotipinde gösteren bireyler koyu gösterilmektedir.



Buna göre numaralandırılmış bireylerden hangisi hastalığı mutasyonla kazanmıştır?

- A) 1 B) 2 C) 3 D) 4

1. Havadaki oksijenin kana geçiş sürecinde alınan hava;

- I. burun,
II. alveol,
III. bronşlar,
IV. gırtlak

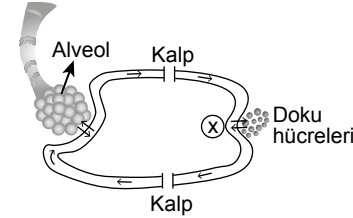
yapılarından hangi sırayla geçer?

- A) I - IV - III - II
B) III - IV - II - I
C) III - II - I - IV
D) I - IV - II - III

2. Aşağıdaki olaylardan hangisi soluk verme esnasında gerçekleşir?

- A) Diafram kası düzleşir.
B) Göğüs boşluğu hacmi artar.
C) Akciğer iç basıncı düşer.
D) Kaburgalar arası kaslar gevşer.

3. Şekilde iç solunumla solunum gazlarının taşınma mekanizması gösterilmektedir.



Aşağıdaki olaylardan hangisi x ile gösterilen kılcallarda gerçekleşir?

- A) $Hb + O_2 \rightarrow HbO_2$
B) $H_2CO_3 \rightarrow H^+ + HCO_3^-$
C) $H_2CO_3 \rightarrow H_2O + CO_2$
D) $HbCO_2 \rightarrow Hb + CO_2$

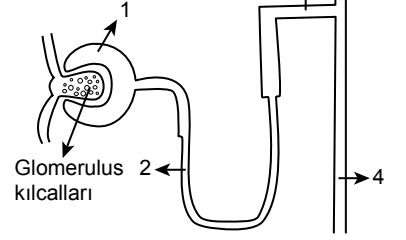
4. Aşağıdakilerden hangisi solunum sistemi sağlığını korumaya yönelik değildir?

- A) Temizlik kimyasallarının buharını solumak
B) Sigara kullanımını bırakmak
C) Duman ve kirli havadan kaçınmak
D) Bulaşıcı hastalıklara karşı aşı olmak

5. Aşağıdakilerden hangisi insanda boşaltım sisteminin görevi değildir?

- A) Su-mineral dengesinin korunması
B) Kan pH'sının dengelenmesi
C) Sindirim atıklarının uzaklaştırılması
D) Homeostasinin sağlanması

6. İşlevsel birimleri numaralandırılarak bir nefronun şekli verilmiştir. 3



Numaralandırılmış kısımlardan hangisindeki süzütü idrara en çok benzerdir?

- A) 1 B) 2 C) 3 D) 4

7. Böbreğin ürettiği eritropoietin hormonunu dışarıdan ek olarak alan sporcular doping yaptıkları gerekçesiyle cezalandırılır.

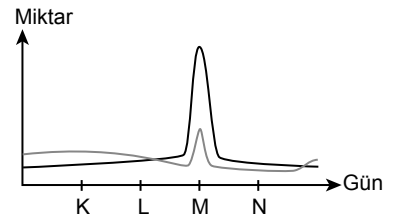
Eritropoietin hormonunun hangi özelliği bu cezanın verilmesi için temel oluşturur?

- A) Kanın oksijen taşıma kapasitesini artırması
B) Böbrek tarafından üretilmesi
C) Kanda taşınması
D) Çok az miktarlarının yüksek etki göstermesi

8. Aşağıdakilerden hangisi dişi üreme sistemi yapısı değildir?

- A) Rahim B) Embriyo
C) Fallopi tüpü D) Ovaryum

9. Menstrual döngünün kandaki FSH ve LH miktarlarının günlük değişimi gösterilmektedir.



KLMN günlerinden hangisinde ovulasyon (yumurtlama) olması beklenir?

- A) K B) L C) M D) N

1. OTURUM

10. Bir insanın embriyonik gelişim süreçlerinin hangisinde oluşan yeni hücreler nitelik ve nicelik bakımından birbirine en çok benzerdir?

- A) Segmentasyon
- B) Gastrulasyon
- C) Organogenez
- D) Farklılaşma

11. Aşağıdakilerden hangisi bir komünite örneğidir?

- A) Akdeniz'deki Akdeniz fokları
- B) Ankara'daki karaçamlar
- C) Doğu Karadeniz Bölgesi
- D) Kırşehir'deki canlılar

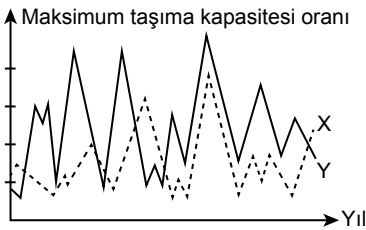
12. Farklı tür iki memeli hayvan arasında aşağıdakilerden hangisi bakımından rekabet görülmez?

- A) Su kaynakları
- B) Yaşam alanı
- C) Av hayvanları
- D) Çiftleşme

13. Aşağıdaki canlılar arası ilişki örneklerinden hangisinde fayda sağlayan taraf bulunmaz?

- A) Mutualizm
- B) Rekabet
- C) Kommensalizm
- D) Parazitizm

14. Aynı yaşam alanını paylaşan X ve Y canlılarının zamanla birbirlerini etkilemelerine bağlı sayısal değişimleri verilmiştir.



Aşağıdakilerden hangisi bu canlılar arasındaki ilişkiyi en doğru ifade eder?

- A) Parazitizm
- B) Amensalizm
- C) Rekabet
- D) Av - avcı ilişkisi

15. Volkanik faaliyetlerle deniz altından yükselerek kayaç bir ada oluşması ve zamanla canlılığın adayı zenginleştirilmesi süreci aşağıdaki terimlerden hangisiyle ifade edilir?

- A) Baskın tür
- B) Süksesyon
- C) Rekabette elenme
- D) Simbiyotik ilişki

16. Doğum oranı ölüm oranından daha az olan bir popülasyonun bu süre aralığında popülasyon yoğunluğu artmıştır.

Bu artışın nedeni aşağıdakilerden hangisi olabilir?

- A) Besin miktarının azalması
- B) Salgın hastalıkların artması
- C) Çiftleşmenin azalması
- D) İçe göçlerin artması

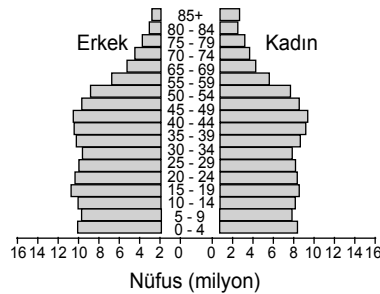
17. Hayatını sürdürdüğü yaşam alanında "S" tipi büyüme eğrisine uygun sayısal değişim gösteren bir memeli hayvan popülasyonunda;

- I. birey sayısının hızlı artışı,
- II. çevre direncinin artması,
- III. üreme hızının yavaşlaması

durumları hangi sırayla gerçekleşir?

- A) I - II - III
- B) I - III - II
- C) II - I - III
- D) II - III - I

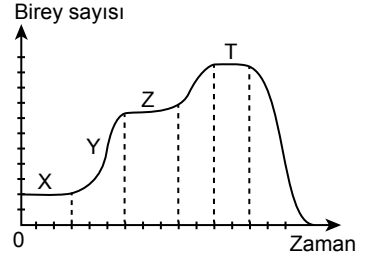
18. Bir insan popülasyonunun yaş ve cinsiyet dağılım piramidi aşağıdaki gibidir.



Buna göre aşağıdaki yorumlardan hangisi doğrudur?

- A) Küçülen popülasyon örneğidir.
- B) 0 - 4 yaş aralığında dişiler daha fazladır.
- C) Gelecekte dengeli büyüme gösterir.
- D) 85 yaş üzerinde erkekler daha fazladır.

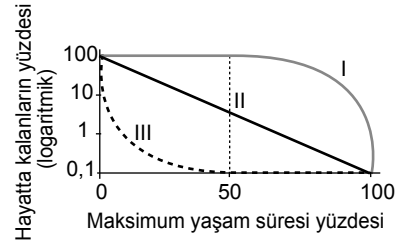
19. Kemirgen bir hayvan popülasyonunun "0" zamanında bırakıldığı bir yaşam ortamındaki sayısal değişim grafiği verilmiştir.



Buna göre aşağıdaki yorumlardan hangisi doğrudur?

- A) J tipi büyüme gösterir.
- B) Çeşitli faktörler popülasyon yoğunluğunda değişimlere neden olmuştur.
- C) Çevre direncinin en yüksek olduğu zaman aralığı X'tir.
- D) Z ve T'deki çevre şartları birbirleriyle aynıdır.

20. Grafikte maksimum yaşam süreleri aynı olan üç farklı canlı türünün maksimum ömürlerine ulaşma yüzdeleri gösterilmiştir.



Grafikteki bilgilere dayanarak aşağıdaki yorumlardan hangisine ulaşılabılır?

- A) III numaralı türdeki canlıların ortalama ömür uzunluğu en fazladır.
- B) II numaralı türün genç ölüm oranı III numaralı türe göre daha yüksektir.
- C) Yeni doğan bir yavrunun maksimum ömür uzunluğuna ulaşma ihtimali I numaralı türde en yüksektir.
- D) Üreme öncesi bireylerin üreme sonrası bireylere oranı I numaralı türde en yüksektir.

1. OTURUM

(461) SEÇMELİ EKONOMİ – 1

1. Ekonomi biliminin en temel sorunu aşağıdakilerden hangisidir?

- A) İnsan nüfusunun sürekli artması
- B) Enerji kaynaklarının tükeniyor olması
- C) Kaynakların doğaya düzensiz dağılması
- D) İhtiyaçların sınırsız kaynakların sınırlı olması

2. Bir ülkede dolaşımdaki para miktarı (diğer şartlar değişmemek koşuluyla) artarsa fiyatların genel seviyesi nasıl olur?

- A) Artar
- B) Azalır
- C) Değişmez
- D) Bilinemez

3. Karma yöntem; ekonomideki objektif olayların doğrudan veya kişisel olarak incelenmesi sürecidir.

Aşağıdakilerden hangisi bu incelemede yararlanılan kaynaklardan biri değildir?

- A) İstatistikler
- B) Monografiler
- C) Gazete haberleri
- D) Kollektif anketler

4. "Çalışmak isteyen herkese iş alanı sağlanması ve mevcut kaynakların tam ve etkili biçimde kullanılması" olarak tanımlanan ekonomi politikasına ait olan tanım aşağıdakilerden hangisidir?

- A) Gelir dağılımı
- B) Pozitif ekonomi
- C) Tam istihdam
- D) Ekonomik denge

5. I. Dünya Savaşı'nın sonrasında yeni Türk devletinin uygulaması gereken ekonomi politikalarının hazırlanması için oluşturulan kurulun başkanlığını aşağıdaki kişilerden hangisi yapmıştır?

- A) Tevfik Fikret
- B) Ziya Gökalp
- C) Mustafa Necati
- D) Celal Bayar

6. Aşağıdakilerden hangisi 17 Şubat 1923'te Türkiye'nin ekonomik kalkınmasını ve politikaların belirlenmesini amaçlayan 1. İzmir İktisat Kongresinde alınan kararlardan biri değildir?

- A) Çiftçi vergilerinin artırılması
- B) Sanayi sektörünün teşvik edilmesi
- C) Ekonomik eğitiminin yaygınlaştırılması
- D) Ulaşımında ucuz tarifelerin uygulanması

7. Kabotaj hakkı, ulaştırma sistemlerinin hangisinde yapılan düzenlemedir?

- A) Kara yolları
- B) Deniz yolları
- C) Demir yolları
- D) Hava yolları

8. Aşağıdakilerden hangisi ekonomik olmayan bir ihtiyaçtır?

- A) Besin
- B) Ayakkabı
- C) Mesken
- D) Güneş

9. II. Dünya Savaşı yıllarında piyasada pancar şekeri fiyatındaki yükselme bu ihtiyacının karşılanması için insanlar pekmez veya hurma tüketimine yöneltmiştir.

Bu bilgiye bakarak aşağıdaki çıkarımlardan hangisi yapılabilir?

- A) İnsanların ihtiyacı sınırsızdır.
- B) Bazı ihtiyaçların üretim kapasitesi sınırlıdır.
- C) İnsanların ihtiyaçları hiçbir zaman değişmez.
- D) Fiyat farkı ürünler arasında rekabete neden olur.

10. "Fizyolojik bir ihtiyaç karşılandıkça bundan duyulan mutluluk ve fayda gittikçe azalır." görüşünü ekonomide ilk kez bilimsel olarak açıklayan yasanın adı nedir?

- A) İkame Yasası
- B) Avogadro Kanunu
- C) Gossen Yasası
- D) Clayton Kanunu

11. Aşağıdaki kişi özelliklerinden hangisinin ihtiyaçların değişimi üzerindeki etkisi daha azdır?

- A) Boyu
- B) Yaşı
- C) Cinsiyeti
- D) Eğitimi

12. Fیزیokrat ekonomistlere göre aşağıdakilerden hangisi sadece üretim olarak kabul edilen ekonomik faaliyettir?

- A) Sanayi
- B) Tarım
- C) Ticaret
- D) Ulaştırma

13. Bir mal, şekli ve yapısı değiştirilerek ihtiyacın daha iyi karşılanmasına fırsat verecek yeni bir üretim malı haline getirilebilir.

Aşağıdakilerin hangisinde metinde belirtilen durum söz konusudur?

- A) Zarar eden işletmenin kapatılması
- B) Tarım alanının sosyal tesise dönüştürülmesi
- C) Sütün peynir haline getirilmesi
- D) Ağaçların ısınma amaçlı kullanılması

14. Doğa ve iklim aşağıdakilerin hangisinin üretim faaliyetinde daha etkili olan temel faktördür?

- A) Otomobil üretiminde
- B) Muz üretiminde
- C) Kâğıt üretiminde
- D) Konut üretiminde

15. İşletmelerin genellikle kullanacağı ham madde kaynaklarının yakınında kurulmasının öncelikli sebebi aşağıdakilerden hangisidir?

- A) İstihdam alanlarını yaymak
- B) Kırsal alanların refahını yükseltmek
- C) İşletmenin rekabet gücünü azaltmak
- D) Ulaşım giderlerinden tasarruf etmek

16. Aşağıdakilerden hangisi insanların üretimde yararlandığı ilk enerji kaynaklarından biridir?

- A) Su değirmenleri
- B) Nükleer santraller
- C) Doğal gaz kaynakları
- D) Hidroelektrik santraller

17. Türkiye'nin madenciligi ve maden potansiyeliyle ilgili aşağıdakilerden hangisi söylenemez?

- A) Maden çeşitliliği yüksektir.
- B) Ülke sanayisine katkı yapar.
- C) Petrol bakımından zengindir.
- D) Üretimi özel ve kamu kesimince yapılır.

1. OTURUM

18. Aşağıdakilerden hangisi ekonomi biliminde emek olarak nitelendirilmez?

- A) Spor yapmak
- B) Hayvancılık yapmak
- C) Balıkçılık yapmak
- D) Hasta tedavi etmek

19. Aşağıdakilerden hangisi bir işletmenin üretim verimliliğini etkileyen subjektif etkenlerden biridir?

- A) İşletmenin kurulduğu yer
- B) İşverenin sempatik olması
- C) Ulaştırma imkanlarının durumu
- D) İşletmenin teknolojik düzeyi

20. Aşağıdakilerden hangisi hızlı nüfus artışının olumsuz yönlerinden biridir?

- A) İş gücü potansiyelini artırması
- B) Genç nüfus oranının fazla olmasını sağlaması
- C) Ülke savunmasına kaynak oluşturmaması
- D) Okul, hastane ve konut ihtiyacını artırması

(465) TEMEL DİNİ BİL. – 1

1. Aşağıdakilerden hangisi sosyal hayatın temelini oluşturur?

- A) Cemiyet
- B) Devlet
- C) Aile
- D) Millet

2. “Çocuğunuza bırakacağınız en güzel miras, güzel ahlakıdır.”

Bu hadise göre anne ve babanın çocuklarına karşı aşağıdaki davranışlardan hangisini sergilemesi beklenmez?

- A) Sorumluluk bilinci kazandırmak
- B) Kazanç için her yolu mubah göstermek
- C) Her canlıya karşı merhametli olmayı kavratmak
- D) Haramlardan sakındırıp helal şeylere yönlendirmek

- 3. I. Nişan
- II. Nikâh
- III. Kına
- IV. Mehir

İslam dini yukarıda verilenlerden hangilerini evliliklerde zorunlu kılmıştır?

- A) I ve III.
- B) I ve IV.
- C) II ve III.
- D) II ve IV.

4. “Müslüman, elinden ve dilinden başkalarının emin olduğu kişidir.”

Aşağıdaki davranışlardan hangisi bu hadis kapsamında değerlendirilmez?

- A) Namazları vaktinde kılmak
- B) Alışverişte dürüst davranmak
- C) İftira ve dedikodudan kaçınmak
- D) Emaneti korumak

5. Hak ve adaletin uygulanması ile bir toplumda huzur ve barış hâkim olur.

İslam’a göre bu durum aşağıdakilerden hangisi ile sağlanabilir?

- A) Bireyci anlayışın yerleşmesi
- B) İşlerin ehil kimselere verilmesi
- C) Mahremiyetlerin göz ardı edilmesi
- D) Farklı kültür ve değerlerin yok sayılması

6. Aşağıdakilerden hangisinin gerçekleşmesinde Hz. Peygamber’in amcası Zübeyr’in etkisi olmuştur?

- A) Hilf-ı Fudûl cemiyetinin kurulması
- B) Zenzem kuyusunun tekrar kazılması
- C) Mekke’yi korumak için Ebrehe ile görüşülmesi
- D) Hz. Peygamber’e “Muhammed” isminin verilmesi

7. Zekât, sadaka ve sadaka-i cariyeye kavramlarının ortak özellikleri aşağıdakilerden hangisidir?

- A) Farz ibadetlerden olmaları
- B) Zaman ve miktar ölçüsü içermeleri
- C) Paylaşma ve yardımlaşma içermeleri
- D) Sadece mal ile yapılan ibadet olmaları

8. “Onlar insanlardan bir şey ölçüp aldıkları zaman, tam ölçerler. Fakat kendileri, başkalarına bir şey verdikleri zaman eksik ölçüp tartarlar.” (Mutaffifin suresi, 2-3. ayetler)

Bu ayetlerde söz konusu olan kimseler aşağıdakilerden hangisiyle isimlendirilir?

- A) Hilekâr
- B) Savurgan
- C) Bozguncu
- D) Karaborsacı

9. Malın kusurunu alıcıdan gizleyerek satan birisi ile ilgili aşağıdakilerden hangisi kesinlikle ifade etmez?

- A) Haram bir davranışta bulunmuştur.
- B) Haksız kazanç sağlamıştır.
- C) Rüşveti helal saymıştır.
- D) Kul hakkına girmiştir.

10. “Ey iman edenler! Zannın çoğundan kaçının. Çünkü bazı zanlar günahtır...” (Hucurât suresi, 12. ayet)

Aşağıdakilerden hangisi bu ayet ile yasaklanan davranışa örnek oluşturur?

- A) Bulutların toplanması sonucu yağmurun yağacağını düşünmek
- B) Yeterince çalışmayan öğrencinin başarısız olacağını düşünmek
- C) Yapılan güzel bir işi arkadaşının yaptığını düşünmek
- D) Çok para harcayan birinin hırsızlık yaptığını düşünmek

11. • Kur’an-ı Kerim’de cinayetten daha kötü olduğu belirtilir.
• Toplum içinde nifak tohumları atarak huzursuzluğa sebep olur.

Hakkında bilgi verilen davranış aşağıdakilerden hangisidir?

- A) Gıybet etmek
- B) Fitne çıkarmak
- C) Savurganlık yapmak
- D) Tecessüste bulunmak

12. • İnsan sağlığını ciddi şekilde tehdit eder.
• En büyük tehlikesi bağımlılık yapmasıdır.
• Hz. Peygamber, kötülüklerin anası olarak nitelemiştir.

Bu bilgilerin tamamı aşağıdakilerden hangisi ile ilgilidir?

- A) İçki
- B) Kumar
- C) Rüşvet
- D) Fitne

13. Aşağıdakilerden hangisi İslam’ın ekonomide sosyal adaletin sağlanması ile ilgili getirdiği esaslardan biri değildir?

- A) Kul hakkını gözetmek
- B) Aileye güzel davranmak
- C) Helal yoldan kazanmak
- D) Bencilik ve israftan kaçınmak

14. “Mallarını Allah yolunda harcayanların örneği, her başağında yüz tanenin bulunduğu yedi adet başak çıkararak bir tohum tanesi gibidir...” (Bakara suresi, 261. ayet)

Aşağıdaki ibadetlerden hangisinin bu ayette teşvik edildiği söylenemez?

- A) İnfak etmek
- B) Zekât vermek
- C) Sadaka vermek
- D) Helal kazanmak

1. OTURUM

15. I. "Allah'a ve ahirete iman eden kimse misafirine ikramda bulunsun."
II. "Hiç kimse elinin emeği ile kazandığından daha hayırlı bir şey yememiştir."
III. "Kişinin sırtına bir bağ odun yüklenip satması, dilenmesinden daha hayırlıdır."
IV. "Kendin için istediğini başkası için de istemedikçe iyi mümin olamazsın."

Numaralanmış hadislerden hangileri helal kazanç ve alın terinin önemine işaret eder?

- A) I ve III. B) I ve IV.
C) II ve III. D) II ve IV.

16. Aşağıdakilerden hangisi işverenin yanlış uygulamaları arasında yer alır?

- A) İşyerinin güvenliğini sağlamak
B) İşçinin ücretini önceden belirlemek
C) İşçilere haberleşme özgürlüğü tanımak
D) İşçileri, çalışma saatinden fazla karşılıksız çalıştırmak

17. "Allah rızık hususunda kiminizi kiminizden üstün kıldı..."
(Nahl suresi, 71. ayet)

Bu ayetten;

- I. rızık sahibi Allah'tır,
II. zenginlik fakirlikten daha hayırlıdır,
III. Allah katında üstünlük ancak takva iledir,
IV. insanlar arasında mal ve mülk bakımından farklılıklar vardır

numaralanmış sonuçlarından hangileri çıkarılır?

- A) I ve III. B) I ve IV.
C) II ve III. D) II ve IV.

18. "Mallarınızı aranızda haksız yollarla yemeyin..."
(Bakara suresi, 188. ayet)

Bu ayete göre aşağıdakilerden hangisi haksız kazanç yollarından biri değildir?

- A) Alım satım yapmak
B) Rüşvet alıp vermek
C) Hileli satış yapmak
D) Faiz alıp vermek

19. İhtikâr ve riba kavramlarının karşılığı sırasıyla aşağıdakilerin hangisinde verilmiştir?

- A) Rüşvet - Hile
B) Karaborsacılık - Faiz
C) Karaborsacılık - Rüşvet
D) Hile - Faiz

20. Aşağıdakilerden hangisi İslam'ın uygun gördüğü davranışlardan biridir?

- A) Yapay olarak fiyatlarla oynamak
B) Kamu malını kendi üstüne geçirmek
C) Malın kusurunu söyleyerek satış yapmak
D) Zamlanacak düşüncesi ile tüketim mallarını stoklamak

(477) SEÇMELİ İŞLETME – 2

1. Belirli bir amaçın gerçekleştirilmesi için işletme faaliyetlerinin planlanması, örgütlenmesi, yönlendirilmesi ve denetlenmesi şeklinde tanımlanan kavram aşağıdakilerden hangisidir?

- A) Yönetim B) Pazarlama
C) Finansman D) Ar-ge

2. Aşağıdaki işletme yönetim süreçlerinden hangisi yapılacak iş ve işlemlerin uyumlu ve düzenli bir hale getirilmesini sağlar?

- A) Yöneltilme B) Planlama
C) Kaynak D) Koordinasyon

3. Aşağıdakilerden hangisi bir işletme yönetiminin hiyerarşik yapısı ve temel politik karar alma organlarının belirli bir ailenin üyelerinden oluşması durumunu ifade eden kavramdır?

- A) Siyasal yönetim
B) Ailesel yönetim
C) Amatör yönetim
D) Profesyonel yönetim

4. Aşağıdakilerden hangisi bir işletmenin faaliyetleri sonucu elde ettiği kârların tümünü veya bir kısmını dağıtmayarak işletmede bırakmasını ifade eder?

- A) Finansman
B) Yabancı kaynak
C) Otofinansman
D) Dış kaynak

5. Üretici ile tüketici arasında köprü görevi görerek tüketici tatmininin sağlanmasına yönelik faaliyetler içeren işletme fonksiyonu aşağıdakilerden hangisidir?

- A) İnsan kaynakları
B) Pazarlama
C) Ahilik
D) Ar-ge

6. Üretilen çayın farklı kentlere satılmak üzere gönderilmesi aşağıdaki pazarlamanın dört temel faydasından hangisine örnektir?

- A) Yer B) Şekil
C) Zaman D) Mülkiyet

7. Aşağıdakilerden hangisi reklamın özelliklerinden biridir?

- A) Reklam veren kişi ya da kurum belli değildir.
B) Reklam veren reklamı denetleyemez.
C) Reklam veren reklam için bir bedel öder.
D) Reklam tüketici tercihlerini etkilemez.

8. Üretici ile tüketici arasında herhangi bir aracının yer almamasına "doğrudan dağıtım" denir.

Buna göre aşağıdakilerden hangisi doğrudan dağıtımın söz konusu olabilmesi için gerekli koşullardan biridir?

- A) Tüketici merkezlerinin dağınık olması
B) Üretimle tüketim hızlarının farklı olması
C) Üretici ya da müşteri sayısının fazla olması
D) Üretim ile tüketim noktaları arasındaki mesafenin kısa olması

9. Aşağıdakilerden hangisi yerli mali tüketiminin ülke ekonomisine yararlarından biridir?

- A) Çalışanların geliri azalır.
B) Ekonomiyi canlandırır.
C) İstihdamı azaltır.
D) Vergi gelirlerini azaltır.

10. İşletmelerin üretimde kullanmak için aldıkları her türlü maddi ve maddi olmayan değerler bütünü aşağıdakilerden hangisidir?

- A) Girdi B) İşlem
C) Çıktı D) Geri bildirim

1. OTURUM

11. İhtiyaçları sınırsız olan tüketici, canı istediği zaman kendisine sağladığı fayda en yüksek olan mal ve hizmeti satın almak ister. Buna karşın tedarikçi konumunda olan işletmeler ise ansızın gelebilecek bir isteğe cevap verebilmek için stok bulundurmaya zorundadır.

Buna göre aşağıdakilerden hangisi yetersiz stok bulundurmanın sonuçlarındandır?

- A) Müşterilerin firmaya bağlılığı artar.
- B) Stok riskleri ortaya çıkabilir.
- C) İşletme müşteri talebini karşılayamaz.
- D) Stok bulundurma giderleri artar.

12. Aşağıdakilerden hangisi işletmelerin gelirini artırmak amacıyla aldığı tedbirlerdendir?

- A) Üretim süresini uzatmak
- B) Üretimde kaliteyi düşürmek
- C) İş gücü maliyetlerini en aza indirmek
- D) Tüketici isteklerini dikkate almamak

13. Aşağıdakilerden hangisi Türkiye İş Kurumunun (İŞKUR) görevlerinden değildir?

- A) Eğitim ve danışmanlık hizmeti vermek
- B) İşsizlik sigortası işlemlerini yürütmek
- C) İş gücü ihtiyaç analizleri yapmak
- D) Ulusal istihdamı azaltmak

14. Aşağıdakilerden hangisi işletmeler tarafından personelinin performansını değerlendirme amaçlarından biridir?

- A) Çalışanın performansını düşürmek
- B) Çalışanın iş motivasyonunu artırmak
- C) Başarının cezalandırılmasını sağlamak
- D) Çalışanların işe odaklanmasını önlemek

15. Aşağıdakilerden hangisi hizmet içi eğitimlerin işletmeye yararlarındandır?

- A) Hatalı üretim azalır.
- B) Üretimde verimlilik azalır.
- C) Çalışanların yeniliklere uyumu zorlaşır.
- D) Çalışan personelin iş yükü şikâyetleri artar.

16. Teknik ve ekonomik yönden hızla değişen, dinamik bir çevre içerisinde faaliyet gösteren işletmeler (örneğin akıllı telefon üreten bir şirket) varlıklarını sürdürülebilmek, amaçlarını gerçekleştirebilmek ve rekabet güçlerini artırmak için sürekli ve düzenli faaliyetlerine önem vermek zorundadır.

Paragraftaki boşluğa gelebilecek en uygun kavram aşağıdakilerden hangisidir?

- A) perakendecilik
- B) toptancılık
- C) kabzımallık
- D) ar-ge

17. İşletmeler, çalışanlarının ücretini belirlerken aşağıdakilerden hangisini dikkate almaması gerekir?

- A) İş Kanunu'nun 5. Maddesini
- B) Eşit işe, farklı ücret uygulanmasını
- C) Ücret politikasında esnek olmayı
- D) Çalışanın refah düzeyini yükseltmeyi

18. - - - - amacı, bütün canlıların ortak varlığı olan çevrenin, sürdürülebilir çevre ve sürdürülebilir kalkınma ilkeleri doğrultusunda korunmasını sağlamaktır.

Paragrafta boş bırakılan yere aşağıdakilerden hangisi gelmelidir?

- A) Sendika Kanunu'nun
- B) İş Kanunu'nun
- C) Çevre Kanunu'nun
- D) Türk Ticaret Kanunu'nun

19. Aşağıdakilerden hangisi işletmelerin faaliyetlerini yürütürken çevrenin korunmasına yönelik olması gereken tedbirlerden değildir?

- A) İşletme proje aşamasındayken olabilecek çevre sorunlarına kayıtsız kalmak
- B) Çalışanlarına çevre konusunda eğitim vermek
- C) Çevre dostu ürünler üretmek için ar-ge çalışmalarına önem vermek
- D) Atıkların geri dönüşümünü sağlamak

20. İşletmelerin varlığını sürdürülebilmesinde tüketiciler önemli bir etkidir. Bu bağlamda işletmelerin tüketicilere karşı sorumluluklarının başında üretildiği ürünün güvenilirliği gelmektedir.

Buna göre aşağıdakilerden hangisi işletmelerin ürün güvenilirliği ile ilgili olması gereken tedbirlerden değildir?

- A) Kullanma kılavuzu hazırlamak
- B) Ürün tanıtımına önem vermek
- C) Ürünün içeriği hakkında bilgiler vermek
- D) Doğabilecek sorunlara karşı tüketiciyi sorumlu tutmak

(479) SEÇMELİ MANTIK – 2

1. Bir önermede yüklem sadece tek "bir ad"a yüklenirse birli yüklem, "iki ad"a yüklenirse ikili yüklem, "üç ad"a yüklenirse üçlü yüklem adını alır.

Buna göre "İbn-i Sina filozoftur." önermesiyle ilgili aşağıdakilerden hangisi doğrudur?

- A) Birli yüklemlidir.
- B) İkili yüklemlidir.
- C) Üçlü yüklemlidir.
- D) Dörtlü yüklemlidir.

2. "Bir bileşik önermede önermenin tümünü etkileyen eklem" aşağıdakilerden hangisiyle adlandırılır?

- A) Ön bileşen
- B) Art bileşen
- C) Eklem
- D) Ana eklem

3. "Can ancak ve ancak kitap okursa anlama düzeyi gelişir." önermesiyle ilgili aşağıdakilerden hangisi doğrudur?

- A) Tutarsız bir önermedir.
- B) Karşılıklı koşul eklemiyle kurulmuştur.
- C) Davranışlardan birinin gerçekleşmesi istenmektedir.
- D) Önermenin ana eklemi "veya" değildir.

4. "v işareti "veya" ekinin sembolü olduğuna göre aşağıdakilerden hangisi "p v q" şeklinde sembolleştirilen bir önermedir?

- A) Hasan yaramaz değildir.
- B) Defne ve Derya zekidir.
- C) Fatih müzik dinlemiştir veya kitap okumuştur.
- D) İstanbul Türkiye'nin en büyük kentidir.

1. OTURUM

5. Sembolik mantıkta önerme eklemi ($\vee, \wedge, \sim, \leftrightarrow, \rightarrow$) bulunan önermeler bileşik, önerme eklemi bulunmayan önermeler ise basit önerme adını alır.

Buna göre aşağıdakilerden hangisi bileşik bir önermedir?

- A) p B) q
C) r D) $\sim p$

6. Bir bileşik önermede önermenin tümünün etkileyen eklem ana eklem denir.

Bu bilgiye göre aşağıdakilerden hangisinde “ \wedge ” sembolü ana eklem durumundadır?

- A) $\sim(r \wedge s)$ B) $\sim(p \wedge q \wedge s)$
C) $p \wedge (r \wedge s)$ D) $\sim p \vee (p \wedge q)$

7. Aşağıdakilerden hangisi “Berna çalışırsa İngilizcesi gelişir.” önermesinin sembolik mantıktaki ifadesidir?

- A) $p \wedge q$ B) $p \rightarrow q$
C) $p \vee q$ D) $\sim p$

8. Karşılıklı koşul önermesinde bileşenlerin hepsi aynı değeri almışsa önerme doğru, diğer durumlarda önerme yanlıştır.

Buna göre;

p	q	$p \leftrightarrow q$
D	D	D
D	Y	I
Y	D	Y
Y	Y	II

tabloda rakamlarla gösterilen yerlere sırasıyla aşağıdakilerden hangisi getirilmelidir?

- A) Y, D B) Y, Y
C) D, Y D) D, D

9. Bir önermenin tutarlı olabilmesi için yorumlarından en az birinin doğru olması gerekir.

Buna göre;

I	II	III
D	D	Y
D	Y	Y

önermelerinden hangileri tutarlıdır?

- A) Yalnız III. B) I ve II.
C) I ve III. D) II ve III.

10.

p	q	$p \vee q$
D	D	D
D	Y	D
Y	D	D
Y	Y	Y

Yukarıdaki doğruluk tablosuna göre ($p \vee q$) önermesiyle ilgili hangisi doğru bir bilgi değildir?

- A) Yorumlarından en az biri doğru olduğu için tutarlıdır.
B) Yorumlarından en az biri yanlış olduğu için geçersizdir.
C) “veya” eklemi kurallarına göre çözümlenmiştir.
D) Yorumlarının hepsinde doğru değeri almıştır.

11. “ $\forall x$ (x insandır.)” önermesi aşağıdaki evrenlerden hangisinde **doğrulur**?

- A) E: {lale, sümbül}
B) E: {kedi, aslan}
C) E: {Aylin, Esra}
D) E: {gümüş, altın}

12. İki ya da daha fazla önerme aynı şartta en az bir defa doğru değeri almışsa bu önermeler birlikte tutarlıdır.

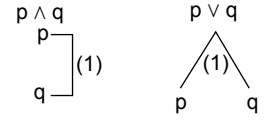
Buna göre;

p	q	$\sim p$	$(p \vee q)$	$(p \rightarrow q)$	$(\sim p \leftrightarrow q)$
D	D	Y	D	D	Y
D	Y	Y	D	Y	D
Y	D	D	I	II	III
Y	Y	D	Y	D	Y

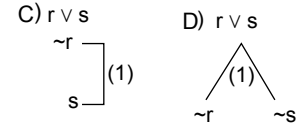
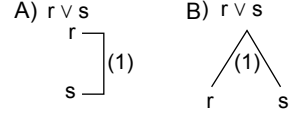
tabloda ($p \vee q$), ($p \rightarrow q$), ($\sim p \leftrightarrow q$) önermelerinin birlikte tutarlı olabilmeleri için numaralı yerlere sırasıyla aşağıdakilerden hangisi getirilmelidir?

- A) D, D, D B) D, D, Y
C) D, Y, D D) Y, Y, D

13. Tümel evetleme önermesi ($p \wedge q$) ile tikel evetleme önermesi ($p \vee q$)’nin çözümlene kuralı aşağıdaki gibidir:



Buna göre aşağıdakilerden hangisi ($r \vee s$) önermesinin çözümlene kuralına göre doğru denetlenmiş hâlidir?



14. “Yasemin doktordur.” önermesinin niceleme mantığına göre sembolleştirilmiş hâli aşağıdakilerden hangisidir?

- A) $\sim Fa$ B) Fa
C) Fab D) $\sim Fab$

15. Niceleme mantığında önermelerin öznesi için a, b, c..., yüklemi için ise F, G, H... gibi semboller kullanılır.

Buna göre;

“Her insan değerlidir.

Duygu insandır.

O hâlde Duygu değerlidir.”

çıkarmında “Duygu” ismini aşağıdakilerden hangisini kullanarak sembolleştirebiliriz?

- A) F B) G C) H D) a

16. • İçinde niceleyici sembolü geçmeyen önermeler tekil önermelerdir.
• İçinde önerme eklemi taşımayan önermeler ise basit önermelerdir.

Bu bilgilere göre aşağıdakilerden hangisi basit tekil önerme örneğidir?

- A) Taş serttir.
B) Taş ve mermer serttir.
C) Bütün taşlar serttir.
D) Bazı mermerler serttir.

17. Önermelere verilen “doğru” ve “yanlış” değerinin yanına “belirsiz” değeri eklenmesi aşağıdaki mantık türlerinden hangisini açıklamaktadır?

- A) Olasılık mantığı
B) İki değerli mantık
C) Üç değerli mantık
D) Dört değerli mantık

1. OTURUM

18. Bir dildeki yeni değişimin anlamını, dilde var olan değişimler yardımıyla belirleme işlemidir.

Açıklaması verilen kavram aşağıdakilerden hangisidir?

- A) Aksiyom B) Tanım
C) Teori D) Teorem

19. Doğruyu açık ve seçik olarak belli olan, bu nedenle ispatlanmasına gerek olmayan önermelere aksiyom denir.

Buna göre aşağıdakilerden hangisi aksiyom örneğidir?

- A) İstanbul Türkiye'nin en kalabalık kentidir.
B) Su iki hidrojen, bir oksijenden oluşur.
C) Dünya Güneş'in etrafında döner.
D) Meltem ile Hasan, Hasan ile Murat kardeş ise Meltem ile Murat da kardeşlerdir.

20. Eleştirel düşünmeyle ilgili aşağıdaki ifadelerden hangisi doğru değildir?

- A) Görüşün kanıtlanması duygulara dayanılarak yapılır.
B) Kişi kendisini eleştirebileceği gibi başkalarını da eleştirebilir.
C) Akıl ilkeleri ve bilimsel yöntemle ispatlanmış bilgiler kullanılır.
D) Bir olay ya da düşüncenin doğru olup olmadığını anlamak için yapılır.

(502) İNGİLİZCE – 8

1 - 20. sorularda boş bırakılan yere uygun gelen kelime ya da ifadeyi işaretleyiniz.

1. **Carla** : What do you think about smartphones?

Julia : I think they make our communication easier - - - - faster.

- A) but B) though
C) yet D) and

2. **Sam** : Can you lend me your car?

Eve : - - - - . Please bring it back in the afternoon.

- A) Excuse me B) Yes, sure
C) You are right D) I am really sorry

3. **Thomas** : - - - - you mind working late tonight?

Eric : No problem.

- A) Can B) Will
C) Must D) Would

4. "- - - -" means far away from towns and cities.

- A) Rural B) Street
C) Worldwide D) Environment

5. **Carl** : I've forgotten my wallet.

Hudson : - - - - . I will lend you some money if you like.

- A) Thanks
B) Don't worry
C) I can't help you
D) You are welcome

6. When Regan arrived at the airport, he realized he - - - - his passport at home.

- A) forgets B) will forget
C) had forgotten D) has forgotten

7. - - - - we were trying to cross the street, a car hit one of my friends.

- A) If B) But
C) Yet D) As


8. It was a well-paid job - - - - Rose accepted the job when they called.

- A) so B) but
C) although D) because

9. The pilot made a/an - - - - telling us to prepare for landing.

- A) disaster B) application
C) difficulty D) announcement

10.



They are - - - - .

- A) pollutants
B) wind turbines
C) volcanic eruptions
D) greenhouse gases

11. In order to reduce the risk of climate change, we should - - - - .

- A) consume more electricity
B) cut down trees
C) use renewable energy
D) use our own cars instead of public transport

12. **Rose** : I think we should continue using oil and coal for energy.

Isabel : - - - - . They destroy the environment.

- A) I disagree with you
B) You look worried
C) You may be right
D) That's true

13. - - - - energy is clean energy provided by the sun.

- A) Wave B) Wind
C) Solar D) Geothermal

14. **Steve** : Do you spend a lot of time on the Internet?

Daisy : No, - - - - .

- A) I have a smartphone
B) only 1 or 2 hours a day
C) it's a technological device
D) I never share my password

15. A "- - - -" is a written paper that contains official information about something.

- A) blog B) banner
C) browser D) document

16. - - - - dragonflies have six legs, they cannot walk.

- A) As a result B) Because
C) Therefore D) Although

17. **Kevin** : You are late. You were supposed to be here at 9 a.m.

Jack : - - - - . The bus arrived too late.

- A) That's so kind of you.
B) Please accept my apology
C) Let's wait and see
D) That's a great idea

1. OTURUM

18. Luis wishes he ---- Rose's phone number. He would telephone and invite her to the concert.

- A) knew B) won't know
C) knows D) didn't know

19. "----" means being polite and respectful towards others.

- A) Gender gap
B) Non-profit organisation
C) Good manners
D) Racial discrimination

20. Brian : Would you like to go to the cinema with us tonight?

Ana : ---- but I have to work tonight.

- A) I wish I could come
B) You should have waited for me
C) She shouldn't have said that
D) We wish we didn't forget the tickets

(502) ALMANCA – 8

1 - 17. sorularda boş bırakılan yere uygun gelen kelime ya da ifadeyi işaretleyiniz.

1. Ein Wissenschaftler hat die Waschmaschine ----.

- A) erfunden B) spielen
C) spazieren D) lachen

2. Ich möchte einen Brief verschicken. ---- ist die Post?

- A) Wann B) Wo
C) Wer D) Was

3.



Was ist das?

Das ist ein ----.

- A) Bügeleisen
B) Kaffeemaschine
C) Wasserkocher
D) Fernseher

4. dem ---- Mann (Dativ)

- A) guten B) gute
C) guter D) gutes

5. Hausgeräte, ---- das Leben leichter machen, sind praktisch.

- A) das B) die C) der D) dem

6. Ich bin dafür, ---- die Technik unser Leben erleichtert.

- A) dass B) und C) ja D) nein

7. Was ---- einen Brief möchten Sie schicken?

- A) zu B) ab C) für D) von

8. ---- lange hast du dein Handy schon?

- A) Wann B) Was
C) Wo D) Wie

9. ---- Taschengeld bekommst du wöchentlich?

- A) Wie viel B) Wer
C) Weil D) Denn

10. Frau Öztürk hat gesagt, ---- sie jetzt keine Freizeit mehr hat.

- A) dann B) dass
C) aber D) und

11.



A: Was ist das?

B: Das ist ein ----.

- A) Laptop B) Wasserkocher
C) Bügeleisen D) Fotoapparat

12. Ist er zufrieden mit ---- Beruf?

- A) seinem B) ihrer
C) ihre D) sein

13. ---- ich spare, kann ich mir ein Auto kaufen.

- A) Ob B) Doch
C) Wenn D) Noch

14. A: Wofür willst du Geld sparen?

B: ---- eine Weltreise ---- machen.

- A) Um / an B) Weil / von
C) Um / zu D) Weil / bei

15. ---- Waschmaschine ---- Kühlschrank

- A) Der / Das B) Das / Der
C) Der / Die D) Die / Der

16. Das ist ein Topf, in dem man das Essen ----.

- A) spielt B) geht
C) kocht D) ist

17. Wie ---- man ein Problem lösen?

- A) könnte B) können
C) kannst D) kann

18. "Briefmarke" sözcüğünün Türkçe karşılığı aşağıdakilerin hangisinde doğru verilmiştir?

- A) Mektup B) Pul
C) Paket D) Posta

19. Das ist eine Maschine, mit der man die Lebensmittel kühl und frisch halten kann.

Was ist das?

- A) Waschmaschine
B) Kühlschrank
C) Kaffeemaschine
D) Mikrowelle

20. "kaufen" fiilinin "Perfekt" hali aşağıdakilerden hangisidir?

- A) kauft B) kaufe
C) gekauft D) kaufst

1. OTURUM

(502) FRANSIZCA – 8

1 - 19. sorularda boş bırakılan yere uygun gelen kelime ya da ifadeyi işaretleyiniz.

- 1. La francophonie désigne les pays et les régions - - - - le français est la langue maternelle ou secondaire.**
A) qui B) où C) dont D) que
- 2. Chaque année, le palais de Topkapı - - - - par de nombreux touristes étrangers.**
A) est visité B) visitée
C) visitait D) a visité
- 3. Ömer a appris le français - - - - .**
A) écouter des chansons françaises
B) a regardé des films policiers
C) parlez avec des Francophones
D) en lisant des documents en français
- 4. L'Ebru est un art de décoration sur papier - - - - en appliquant sur l'eau.**
A) obtiendra B) obtenir
C) obtenu D) obtient
- 5. Les femmes anatoliennes sont excellentes en cuisine parce qu' - - - - .**
A) elles font de très bons repas
B) elles réparent des tapis antiques
C) elles font des bijoux en argent
D) elles mangent des desserts sucrés
- 6. Faire du sport, c'est comme une chanson - - - - il faut chanter tous les jours.**
A) dont B) qu' C) qui D) où
- 7. Les étrangers adorent les lokoums - - - - rose - - - - un café turc.**
A) au / d' B) aux / sans
C) à la / avec D) de la / en
- 8. C'est mes parents et moi qui - - - - en vacances la semaine prochaine.**
A) partiront B) partent
C) partirez D) partirons

- 9. Comme je travaille chez moi et que je ne peux pas sortir souvent, - - - - .**
A) je préfère les achats sur Internet
B) je prends le train très tôt le matin
C) je rends visite régulièrement à mes parents
D) j'ai des amis qui font de l'alpinisme avec moi
- 10. Je pense que la tortue est l'animal - - - - rapide.**
A) les plus B) le moins
C) mieux D) aussi
- 11. Tous les pantalons de mon fils sont trop courts ; il a - - - - de 5 cm en deux mois.**
A) choisi B) pris
C) grandi D) mis
- 12. Ma mère demande à mon père - - - - quel âge il travaillera.**
A) pour B) depuis
C) en D) jusqu'à
- 13. Tu as fait une erreur de calcul, - - - - .**
A) donc ton résultat est faux
B) alors on va au cinéma
C) c'est pour ça qu'on sort le soir
D) mais il ne te connaît pas
- 14. Ma mère a fait la cuisine - - - - plusieurs jours parce qu'elle sera absente la semaine prochaine.**
A) avec B) pour
C) dans D) par
- 15. Aujourd'hui, c'est moi qui ferai la vaisselle. Laisse, je me (m') - - - - occupe.**
A) y B) en C) lui D) l'
- 16. Arthur m'invite à la piscine municipale, mais je ne veux pas - - - - aller.**
A) y B) en C) l' D) lui
- 17. Le cousin de Jacques est tombé par terre quand il - - - - trop vite.**
A) as couru B) courra
C) courait D) cours

- 18. La cravate de Monsieur Dupont est jaune, mais - - - - est grise.**
A) le mien B) les siennes
C) la vôtre D) les nôtres
- 19. Je peux aller en voiture jusqu' - - - - Espagne.**
A) au B) à la C) aux D) en

20.



Görsele göre aşağıdakilerden hangisi doğrudur ?

- A) Il fait froid et il a faim.
- B) Il pleut et il court.
- C) Il y a du soleil et il a l'air content.
- D) Il fait très chaud et il a soif.

(511) FIKIH – 1

- 1. Fıkhın ibadetler bölümünün ele alındığı müstakil kitaplara ne ad verilir?**
A) Siyer B) İlmihal
C) Akaid D) Fıkh usulü
- 2. Aşağıdakilerden hangisi fıkhın ana konularından biri değildir?**
A) Münâkehât B) Ukûbât
C) Ahlak D) Ferâiz
- 3. Fıkh ilminin en çok irtibatlı olduğu ilim dalları aşağıdakilerden hangisidir?**
A) Dinler Tarihi - İslam Tarihi
B) Sosyoloji - Psikoloji
C) Tasavvuf - Kelam
D) Tefsir - Hadis
- 4. Hz. Peygamber önceleri Müslümanların, kabirleri ziyaret etmesini yasaklamışken sonraları ziyaret edilmesinde bir sakınca görmemiş ve bu yasağı kaldırmıştır.**
Bu durum aşağıdaki kavramlardan hangisine örnektir?
A) Nesh B) Kıyas
C) Ruhsat D) İstishab

1. OTURUM

5. Aşağıdaki eserlerden hangisi İmam Gazzâlî'ye aittir?

- A) el-Hidaye
- B) el-Müstesfâ
- C) el-Muvâfakât
- D) Bidâyetü'l-müctehid

6. "Kamu yararı ile bireylerin menfaati çatıştığında kamu yararı tercih edilir." ilkesini ifade etmek için kullanılan kavram aşağıdakilerden hangisidir?

- A) Teklif
- B) Mahcur
- C) Maslahat
- D) Seddizerayi

7. İslam hukuku aşağıdaki dönemlerin hangisi ile başlar?

- A) Hz. Peygamber
- B) Mezhepler
- C) Sahabe
- D) Tâbiîn

8. "Zaruretlar memnu olan şeyleri meşru kılar." maddesi fıkıh ilminin aşağıdaki ilkelerinden hangisine örnektir?

- A) Tedricilik
- B) Tekliflerde kolaylık
- C) Adaletin gözetilmesi
- D) Kamu yararının gözetilmesi

9. Aşağıdaki uygulamalardan hangisi sahabe içtihadına örnektir?

- A) Kan ve organ nakillerine izin verilmesi
- B) Namaza çağrının ezan ile yapılmasına karar verilmesi
- C) Gayri müslimi öldüren Müslümana kısas uygulanması
- D) Teravih namazının cemaat ile yirmi rekât kılınmaya başlanması

10. • Medine'de doğup orada vefat etmiştir.
• İmam Nafi, Zühri ve Rabietu'r-Re'y en etkili hocalarıdır.
• İlk hadis kaynakları arasında gösterilen Muvatta adlı eserin müellifidir.

Hakkında bilgi verilen mezhep imamı aşağıdakilerden hangisidir?

- A) Malik bin Enes
- B) Numan bin Sabit
- C) Ahmet bin Hanbel
- D) Muhammed bin İdris eş-Şafi

11. Meydana gelmesinde insanın iradesi ve fiili olan arızalara "müktesep arızalar" denir.

Buna göre aşağıdakilerden hangisi müktesep arızalara örnektir?

- A) Çocukluk
- B) Bayılma
- C) Bunama
- D) Cehalet

12. Hanefi mezhebine göre vacip hüküm ile ilgili aşağıdaki bilgilerden hangisi yanlıştır?

- A) Farzdan ayrı bir hüküm olarak kabul edilir.
- B) İnkâr eden kişinin dinden çıktığına hükmedilir.
- C) Mükellef tarafından yerine getirilmesi gereklidir.
- D) Kurban Bayramı'nda kurban kesmek buna örnektir.

13. Aşağıdaki kavramlardan hangisi olumsuz bir anlam ifade etmektedir?

- A) Mübah
- B) Helal
- C) Müfsit
- D) Caiz

14. Aşağıdakilerden hangisi dolaylı harama örnektir?

- A) Hırsızlık yapmak
- B) Alkollü içki içmek
- C) Yalan yere şahitlik yapmak
- D) Cuma vaktinde alışveriş yapmak

15. İstishab; bir zamanda mevcut olan durumun, değiştiğine dair delil bulunmadıkça hâlen varlığını koruduğuna hükmetmektir.

Buna göre aşağıdakilerden hangisi istishab deliline örnektir?

- A) Hastalığın yayılmasını önlemek için karantina kararı almak
- B) Sanığa, suçu ispat edilene kadar suçsuz muamelesi yapmak
- C) Neslin devamını sağlamak için geçici av yasağı getirmek
- D) Sarhoşluk veren tüm içecekleri haram kabul etmek

16. Hz. Peygamber'in aşağıdaki davranışlarından hangisi takriri sünnete örnektir?

- A) "Ameller niyetlere göre değerlendirilir." buyurması
- B) Yardımlaşmada ihtiyaç sahibine öncelik vermesi
- C) Medineli gençlerin yöresel oyunlarını izlemesi
- D) Muhatabının yüzüne bakarak konuşması

17. "Allah'a itaat edin, Peygamber'e itaat edin ve Allah'a karşı gelmekten sakının. Şayet yüz çevirirseniz bilmiş olun ki elçimize düşen sadece tebliğ etmektir."

(Mâide suresi, 92. ayet)

Bu ayetten aşağıdakilerden hangisi çıkarılamaz?

- A) İman etmek insan iradesine bırakılmıştır.
- B) Hz. Peygamber'in, Allah'a karşı sorumlulukları vardır.
- C) İnananlar için Kur'an ve sünnetin hükümleri bağlayıcıdır.
- D) Kur'an ve sünnette hüküm bulunmayan konularda örf geçerlidir.

18. Aşağıdakilerden hangisi tabii dönemi âlim ve fakihlerindedir?

- A) Abdullah bin Mesud
- B) Abdullah bin Ömer
- C) Said bin Müseyyeb
- D) Zeyd bin Sabit

19. Aşağıdakilerden hangisi içtihadta aranan şartlardan biri değildir?

- A) Dinin genel amaçlarına uygun olmalıdır.
- B) Alanında yetkin kişiler tarafından yapılmalıdır.
- C) Subûtu ve delâleti kat'i hükümlerde yapılamaz.
- D) Bütün müçtehitlerin ortak kararıyla sonuçlanmalıdır.

20. İslam kültüründe dinî ilimlerde uzman olan müçtehidin, dinin ayrıntılarına ilişkin konularda, kendine özgü kural ve metotla meydana getirdiği görüşlere verilen ad aşağıdakilerden hangisidir?

- A) Mezhep
- B) Telifik
- C) İtikat
- D) Nas

1. OTURUM

(532) SEÇMELİ PEYGAMBERİMİZİN HAY. – 2

1. "...Hiçbir ümmet yoktur ki içlerinden bir uyarıcı gelip geçmemiş olsun."
(Fâtır suresi, 24. ayet)

Bu ayet ile aşağıdaki yargılardan hangisine ulaşamaz?

- A) Kur'an-ı Kerim'de bazı peygamberlerin kıssaları anlatılmaktadır.
B) Her toplum Allah'ın emir ve yasaklarından haberdar edilmiştir.
C) Allah insanlara birçok peygamber göndermiştir.
D) Her peygamberin tebliğ görevi vardır.

2. Hz. Peygamber, bir grup Medinelî ile Akabe bölgesinde üç yıl üst üste görüşmeler yapmıştır.

Bu görüşmelerin ilki aşağıdaki tarihlerden hangisinde gerçekleşmiştir?

- A) 615 B) 620
C) 624 D) 627

3. • Hz. Hatice'nin amcasının oğludur.
• Tevrat ve İncil'i okumuş bir bilgedir.
• Hz. Muhammed'in (sav.) ilk vahiy tecrübesini paylaştığı kişidir.

Hakkında bilgi verilen kişi aşağıdakilerden hangisidir?

- A) Ebu Talib
B) Ebu Süfyan
C) Varaka bin Nevfel
D) Sa'd bin Ebi Vakkas

4. Aşağıdakilerden hangisi diğerlerinden sonra Müslüman olmuştur?

- A) Hz. Ali B) Hz. Zeyd
C) Hz. Hatice D) Hz. Osman

5. Aşağıdakilerden hangisi ilk Müslümanların genel özelliklerinden biri değildir?

- A) Çoğunluğunun genç olması
B) Hz. Muhammed'e (sav.) güven duymaları
C) Mekke'nin yönetiminde söz hakkına sahip olmaları
D) Cahiliye adetlerinden hoşlanmayan kişiler olmaları

6. "Onlara, 'Allah'ın indirdiğine uyun' denildiğinde, 'Hayır, biz atalarımızdan gördüğümüze uyarız.' dediler..."
(Lokmân suresi, 21. ayet)

Bu ayette müşriklerin İslam'a karşı çıkma sebeplerinden hangisine değinilmiştir?

- A) Peygamberin kendi kabilelerinden olması gerektiğini düşünmelerine
B) Toplumunu kendi arzu ve menfaatlerine göre şekillendirme isteklerine
C) Önemli gelir kaynaklarından olan putları kaybetme korkularına
D) Kabilelerine ve geçmişlerine körü körüne bağlı olmalarına

7. • İslam'da ilk hicret edilen yerdir.
• Halkının çoğunluğu Hristiyanlardan oluşmaktaydı.
• Halkı, adaletli bir kral olan Ashame tarafından yönetilmekteydi.

Hakkında bilgi verilen yer aşağıdakilerden hangisidir?

- A) Habeşistan B) Suriye
C) Mısır D) İran

8. Müşriklerin, önemli meseleleri görüşmek, karar almak ve İslamiyet'in yayılmasına engel olmak için toplandıkları yer aşağıdakilerden hangisidir?

- A) Dâru'l-Kurra B) Dâru'l-Erkam
C) Dâru'n-Nedve D) Dâru'l-Hikme

9. Aşağıdakilerden hangisi Miraç'ta gerçekleşen olaylardan biri değildir?

- A) Beş vakit namazın farz kılınması
B) Allah'a inananların cennete gireceği müjdesi
C) Bakara suresinin son iki ayetinin vahyedilmesi
D) Hz. Peygamber'in Cebrail'e Kur'an'ı arz etmesi

10. Aşağıdaki olaylardan hangisinin sonucunda Medine'ye hicret edilmiştir?

- A) Akabe Biatları'nın gerçekleşmesi
B) Medine Sözleşmesi'nin imzalanması
C) Müşrikler ile savaşa izin verilmesi
D) Kaza umresinin yapılması

11. Hz. Muhammed'e (sav.) indirilen ilk vahiy aşağıdaki ayetlerden hangisidir?

- A) "Ey örtünüp bürünen Peygamber! Kalk ve insanları uyar. Rabb'ini yücelt. Elbiselerini temiz tut. Kötü şeyleri terk et."
(Müddessir suresi, 1-5. ayetler)
B) "Yaratan Rabb'inin adıyla oku! O, İnsanı alaktan yarattı. Oku! Senin Rabb'in sonsuz kerem sahibidir."
(Alak suresi, 1-3. ayetler)
C) "Şimdi sen, sana emrolunanı açıkça ortaya koy ve Allah'a ortak koşanlara aldırış etme."
(Hicr suresi, 94. ayet)
D) "En yakın akrabana uyar."
(Şu'arâ suresi, 214. ayet)

12. "...İlk günden temeli takva üzerine kurulan meşit içinde namaz kılman elbette daha uygundur..."
(Tevbe suresi, 108. ayet)

Bu ayette bahsedilen meşit aşağıdakilerden hangisidir?

- A) Mescid-i Haram
B) Mescid-i Nebi
C) Mescid-i Kuba
D) Mescid-i Aksa

13. Hz. Peygamber, Mescid-i Nebi'nin inşa edilme sürecinde aşağıdaki sahabelerden hangisinin evinde misafir olmuştur?

- A) Abdullah bin Revaha
B) Ebu Eyyub el-Ensari
C) Muaz bin Cebel
D) Ebu Hureyre

14. Hz. Peygamber'in, kimsesiz ve ilim öğrenmek isteyen Müslümanların kalması için Mescid-i Nebi'nin bitişiğine inşa ettirdiği "gölgelik" anlamına gelen yere - - - - , burada kalanlara ise - - - - denirdi.

Bu cümlede boş bırakılan yerlere sırasıyla aşağıdakilerden hangisi getirilmelidir?

- A) beyt - ehl-i beyt
B) hicr - ashab-ı hicr
C) dergâh - ehl-i tarik
D) suffe - ashab-ı suffe

15. Ezan lafızlarını rüyasında görüp Hz. Peygamber'e anlatan sahabe aşağıdakilerden hangisidir?

- A) Hz. Bilal-i Habeşi
B) Hz. Osman bin Affan
C) Hz. Abdullah bin Zeyd
D) Hz. Enes bin Malik

1. OTURUM

16. Aşağıdakilerden hangisi Vatandaşlık Anlaşması'na katılan Medine halkını oluşturan topluluklardan biri değildir?

- A) Beni Nadir, Beni Kaynuka ve Beni Kureyza Yahudileri
- B) Muhacirden oluşan Müslümanlar
- C) Evs ve Hazrec Kabileleri
- D) Bedevi Araplar

17. Hz. Peygamber Medine pazarının kurulmasını isteyerek aşağıdakilerden hangisini amaçlamıştır?

- A) Müslümanların ticarete güçlenmesini sağlamayı
- B) Ticari ürünlerin kalitesini yükseltmeyi
- C) Ticari rekabeti artırmayı
- D) Dış ticareti geliştirmeyi

18. Aşağıdakilerden hangisi "Mescid-i Kibleteyn" ile ilgili bir bilgidir?

- A) Müslümanların hem ibadet hem de eğitim yeri olarak kullanması için Hz. Peygamber tarafından yaptırılan mescittir.
- B) Kudüs'e doğru başlanan öğle namazının vahyin gelmesi ile Kâbe'ye dönerek kılındığı iki kibleli mescittir.
- C) Miraç hadisesinde Hz. Peygamber'in iki rekât namaz kıldığı mescittir.
- D) İnşasında Hz. Peygamber'in bizzat çalıştığı İslam'ın ilk mescididir.

19. Müslümanların galibiyeti ile sonuçlanan İslam tarihinin ilk savaşı aşağıdakilerden hangisidir?

- A) Bedir
- B) Uhud
- C) Hendek
- D) Huneyn

20. Ebu Bera'nın teminatı ile yetmiş kişilik öğretmen topluluğu Necid'e doğru yola çıkmış, Bi'r-i Maune yakınlarında saldırıya uğramıştır.

Aşağıdakilerden hangisi bu olaydan kurtulan sahabelerden biridir?

- A) Hz. Mus'ab bin Umeyr
- B) Hz. Muaz bin Cebel
- C) Hz. Zeyd bin Sabit
- D) Hz. Ka'b bin Zeyd

(544) TÜRK DİLİ VE EDEBİYATI – 4

1. • Victor Hugo
• Givoanni Boccacio
• Miguel de Cervantes

Bu sanatçılar aşağıdaki eserlerle eşleştirildiğinde hangisi dışta kalır?

- A) Don Kişot
- B) Dekameron
- C) Sefiller
- D) Robinson Crusoe

2. (I) Tanzimat Dönemi'ndeki eserler roman türünün ilk örnekleri olduğu için teknik yönden kusurludur. (II) Bu dönemde ortaya konan eserlerin amacı halkı eğitmekten çok, estetik zevk oluşturmaktır. (III) Eserlerde romantizm akımının esasları yansıtıldığı için uzun betimlemelere yer verilmiştir. (IV) Yazarlar kendi kişiliklerini gizlememişler olayın akışını bozarak görüşlerini söylemişlerdir.

Bu parçada numaralanmış cümlelerin hangisinde Tanzimat'ın I. dönemi ile ilgili bilgi yanlış vardır?

- A) I. B) II. C) III. D) IV.

3. Bu dönemin yazarları eserlerinde genellikle görücü usulüyle evlilik, kölelik-cariyelik, tarihî olaylar, yanlış Batılılaşma gibi sosyal konuları işlemişlerdir. Araba Sevdası, Cezmi, Sergüzeşt adlı romanlar bu dönemde yazılmıştır.

Bu parçada sözü edilen dönem aşağıdakilerden hangisidir?

- A) Servetifünun B) Tanzimat
- C) Fecriati D) Millî Edebiyat

4. Aşağıdaki kahraman-eser eşleştirmelerinden hangisi yanlıştır?

- A) Suat, Süreyya – Eylül
- B) Mahpeyker, Ali Bey – İntibah
- C) İhsan, Peyami – Sefiller
- D) Kumru, Müştak Bey – Şair Evlenmesi

5. Servetifünun Dönemi romancılarından olan Mehmet Rauf, mensur şiir, hikâye, roman ve tiyatro türlerinde otuzdan fazla eser vermiştir. Siyah İnciler, Karabibik,

Sinekli Bakkal ve Vatan yahut Silistre

eserlerinden birkaçıdır.

Bu parçada numaralanmış eserlerden hangisi sözü edilen sanatçıya aittir?

- A) I. B) II. C) III. D) IV.

6. Aşağıdakilerden hangisi yüklem türüne göre diğerlerinden farklıdır?

- A) O Türk şiirini, musikisini, tarihini içten duyarak seven bir sanatçıdır.
- B) Gelişen teknoloji ile dünyamızın gerçek anlamda küreselleştiğini görüyoruz.
- C) Tepelerden, ara vermeyen, soluk aldırmayan bir yağmur iniyor.
- D) Birden siyah, saten bir kutunun içinde, bir elmas gerdanlık buldu.

7. Aile büyüklerinden öğrenilen el sanatları, bu bölgede yaşayan insanlar için bir geçim kaynağı olmuş.

Bu cümlenin yapısına göre türü aşağıdakilerden hangisidir?

- A) Basit B) Sıralı
- C) Birleşik D) Bağlı

8. Gölge oyunundaki "Karagöz" ile aynı özelliklere sahip olan "Kavuklu" aşağıdakilerden hangisinin kahramanıdır?

- A) Orta oyunu B) Dram
- C) Köy tiyatrosu D) Trajedi

9. Aşağıdakilerden hangisi "İbrahim Şinasi"ye ait değildir?

- A) Durub-ı Emsal-i Osmaniye
- B) Müntehabat-ı Eş'ar
- C) Tercümân-ı Ahvâl Mukaddimesi
- D) Tahrib-i Harabat

10. • Karagöz ve meddahta yazılı bir metin yoktur.

• Orta oyununda asıl konunun işlendiği bölüm mukaddimedir.

• Karagöz oyununda Çelebi, Zenne, Acem gibi tipler de yer alır.

Bu cümleler doğru-yanlış olarak değerlendirildiğinde sıralama aşağıdakilerden hangisi olur?

- A) D – Y – D B) Y – D – Y
- C) Y – Y – D D) D – D – Y

11. Japon gelinler Türk yemeklerini öğreniyorlar. Bir Türk-Japon derneği de iki kültürün kaynaşması için çalışıyor. Sürekli yemek kursları, dil kursları ve öğrenci değişim programları düzenleniyor. Açılan yemek kurslarına Japon gelinlerden büyük ilgi var.

Bu parça aşağıdaki metin türlerinin hangisinden alınmıştır?

- A) Günlük B) Deneme
- C) Makale D) Haber yazısı

1. OTURUM

(547) TÜRK DİLİ VE EDEBİYATI – 7

12. Babürşah'ın kaleme aldığı "Babürname" adlı eserin türü aşağıdakilerden hangisidir?

- A) Anı B) Roman
C) Tiyatro D) Makale

13. • Takvîm-i Vakâyi
• Cerîde-i Havâdîs
• Tercümân-ı Ahvâl

Verilenlerin ortak özelliği aşağıdakilerden hangisidir?

- A) Şinasi tarafından çıkartılmaları
B) Haber yazıları içermeleri
C) Servetifünun Dönemi'ne ait olmaları
D) Roman türünde kaleme alınmaları

14. Marmara Köşkü'nde 11 Nisan 1930 Cuma akşamı Gazi Mustafa Kemal Paşa'nın önünde sanatçıların geçirdikleri bu gece, can çekişen Türk tiyatrosuna yeni bir çehre ve umut açmıştır. Gazi büyük bir insan, elbette bizi ağırlamak için oraya çağırılmaz. Oyunlarımızı en sıcak bir ilgiyle izledikten sonra bize verecek bir emri, söyleyecek bir sözü olmalıydı. Nitekim okyanus dalgaları gibi gelen iltifatlar bizi memnun etmişti.

Bu parça aşağıdaki metin türlerinin hangisinden alınmıştır?

- A) Makale B) Gezi yazısı
C) Anı D) Fıkra

15. Aşağıdaki eserlerden hangisinin türü diğerlerinden farklıdır?

- A) Kırk Yıl
B) Saray ve Ötesi
C) Ömer'in Çocukluğu
D) Zavallı Çocuk

16. Çok bitkin bir hâldeyim, inanılmaz derecede.

Bu cümle ile ilgili aşağıdakilerden hangisi söylenebilir?

- A) Olumlu-fiil-basit-devrik
B) Olumsuz-isim-birleşik-kurallı
C) Olumlu-isim-birleşik-devrik
D) Olumsuz-fiil-basit-kurallı

17. Erzurum, geniş ve yeşil ovaya bakan, çekici bir kent. Uzun kavakları karga yuvalarıyla dolu. Ara sıra bir kavakta on ikiye aşkın yuva görülüyor. Bunlar sanki minare şerefelerini andırıyor. Kentte Rusların pek azı kalmış. Bunlar Erzurum Kalesi'nin savunmasında görevli Rus subayların eşleri. Onların parlak semaverleri, çayları, kitapları, gazeteleri hiçbir şeyleri eksik değil.

Bu parça aşağıdaki yazı türlerinin hangisinden alınmıştır?

- A) Söylev B) Mektup
C) Gezi yazısı D) Biyografi

18. Yazar Sait Faik Abasıyanık'ın tabii güzelliklerini hikâyelerinde anlattığı Marmara Denizi'ndeki Burgazada'da, yıldırım düşmesi nedeniyle sabah saatlerinde çıkan yangın büyük uğraşlar sonucu söndürüldü.

Bu cümlede aşağıdaki sorulardan hangisinin cevabı yoktur?

- A) Ne zaman B) Kim
C) Nerede D) Nasıl

19. İnsan iki defa emekliyor () Beşikten çıktığı vakit () yaşlılık ilerlediğinde () Çocukken ana ve baba var, tutarlar () ihtiyarın tutunmak için uzattığı ele karşı çehreler dönüktür.

Bu parçada ayrıca gösterilen yerlere sırasıyla aşağıdaki noktalama işaretlerinden hangileri getirilmelidir?

- A) (:) (,) (.) (:)
B) (,) (,) (...) (:)
C) (:) (:) (.) (.)
D) (.) (:) (...) (:)

20. Manyas Kuş gölünün kuzey doğusunda

I II
yer alan Kuş Cenneti Millî Parkı,
III
Bandırma-Balıkesir kara yolunun 15.
IV
kilometresinde bulunur.

Bu cümlede numaralanmış sözlerin hangilerinde yazım yanlışı vardır?

- A) I ve II. B) I ve III.
C) II ve IV. D) III ve IV.

1. Amacı varlık, evren, ahlak, bilgi ve estetik gibi konularda sistematik bir düşünce ortaya koymak olan - - - - ile edebiyat birbirinden bağımsız düşünülemez.

Bu cümlede boş bırakılan yere aşağıdaki bilgi dallarından hangisi getirilmelidir?

- A) tarih B) sosyoloji
C) psikoloji D) felsefe

2. Fikrinde inatçı, muhabbetinde inatçı, muharebede inatçısın. Yeniliğe çabuk alışmazsın fakat bir defa da alıştıysan bırakmazsın. Safsın; seni çekemeyenler böbürlenmekle değil ekseri sana yaranmaya çalışmakla zarar verirler. Ayakların, kolların bir boğa gibi ağır ağır kimıldarken tavrandan tükenmeyen bir tahammül, yılmayan bir azim belli olur. O engin denize benzersin ki yavaş yavaş coşar ve coşunca da pek hırçın olursun.

Bu parçada aşağıdaki bilim dallarının hangisinden yararlanılmıştır?

- A) Psikoloji B) Coğrafya
C) Arkeoloji D) Sosyoloji

3. • Coğrafya
• Teknoloji
• Din

Türk dilinin değişim ve gelişimini etkileyen aşağıdaki olaylardan hangisi verilen alanlarla eşleştirildiğinde dışta kalır?

- A) Anadolu'ya yapılan göç
B) Genel Ağ'ın (İnternet) icadı
C) Türk Dil Kurumunun kurulması
D) İslamiyet'in kabul edilmesi

4. Sözcüklerin anlamlarını, okunuşlarını ve kökenlerini öğrenmek isteyen bir dil bilimci aşağıdaki kaynaklardan hangisine başvurmalıdır?

- A) Tiyatro B) Hikâye
C) Roman D) Sözlük

5. Aşağıdakilerden hangisi sözlük çalışmalarından değildir?

- A) Kamus-ı Türkî
B) Divanü Lûgati't Türk
C) Atabetü'l Hakayık
D) Lehçe-i Osmanî

1. OTURUM

6. Aşağıdaki cümlelerin hangisinde terim anlamıyla kullanılmış bir sözcük vardır?

- A) Yeni kiracılar 3. kattaki, uzun zamandır boş olan daireye taşınmışlar.
B) Yazdığı şiirde ahengi kafiye ve redif kullanarak sağlamış.
C) Salonun perdesini yıkamak için bin bir zahmetle yerinden söktü.
D) Her olaya farklı bir noktadan bakarak değerlendirme yapıyor.

7. Karanlık gecenin nazlı gelini

Ateş verir yandırırlar dilini

Kız, gelinler sana vurur elini

Karanlıkta büyük hünersin lamba

Bu dizelerdeki numaralanmış sözcüklerden hangisinin zıt anlamlısı yoktur?

- A) I. B) II. C) III. D) IV.

8. Hülya tepeler, hayal ağaçlar...
Durgun suda dinlenen yamaçlar...

Bu dizelerdeki altı çizili sözcükler arasındaki anlam ilişkisi aşağıdakilerden hangisidir?

- A) Eş seslilik B) Eş anlamlılık
C) Zıt anlamlılık D) Yakın anlamlılık

9. Ey karanlıklar içinde nur gibi parlayan mahzun yıldız! Ey Ayşe kız! Sen

bu nefis Şaheseri nasıl meydana

getirdin? Mektep, Üstat görmeden

nasıl en büyük Fransız ressamı olan

Vato ile imtihan meydanına girdin ve aynı şeref mevkiini kazandın?

Bu parçadaki altı çizili sözcüklerin hangilerinde büyük harflerin kullanımıyla ilgili yazım yanlışı vardır?

- A) I ve II. B) II ve III.
C) III ve IV. D) IV ve V.

10. Serinliği ayaza çalan sonbahar gecesi tertemizdi () akasyaların tohum keselerinde () doktorun pek bildiği ve o kadar da sevdiği şarkısını mırıldanıyordu () Her yıl tekrarlanmaya başlayan şarkının şu tek mısralık şiirini aklından geçirdi () "Bugün hazan, önümüz kış ve akıbet belli."

Bu parçada ayrıçla gösterilen yerlere sırasıyla aşağıdaki noktalama işaretlerinden hangileri getirilmelidir?

- A) (,) (,) (,) (,) B) (;) (,) (,) (.)
C) (,) (;) (,) (;) D) (;) (,) (,) (;)

11. Aşağıdakilerden hangisi 1960 sonrası Türk hikâyecilerinden değildir?

- A) Sabahattin Ali B) Sevgi Soysal
C) Orhan Duru D) Leyla Erbil

12. İlbaharın bu ilk günlerinde Sakine Çiçek'in, itirilarla sardunyalari, pence-re dibinde boy veren mor çiçekli hüsnü-yusufulari bir başka güzeldi. Avlu taşları halka halka esmerleşti ve kayboldu esmer, kıvrık çizgiler. Avluya çizgilerin cıvıllığında ince bir serinlik dokunup geçti.

Bu parçada hikâyenin yapı unsurlarından hangisi yoktur?

- A) Kişi B) Olay
C) Mekân D) Zaman

13. Kahramanın zihninden geçenleri, olduğu gibi aktarma çabasıdır. Bu teknikte amaç, bireyin iç dünyasında şekillenen duygu ve düşüncelerin doğal olarak yansıtılmasıdır. Örneğin yarım bırakılmış cümleler, rastgele dizilmiş gibi görünen ifadeler; çağrışımlarla okur zihninde bir bütün hâline gelir, anlamsal bir düzene girer.

Bu parçada sözü edilen anlatım tekniği aşağıdakilerden hangisidir?

- A) Diyalog B) Bilinç akışı
C) İç konuşma D) Geriye dönüş

14. • Ele alınan durumun en çarpıcı noktası üzerinde durulur.
• Kişi, zaman ve mekân unsurlarına geniş yer verilir.
• Anlatım, her okuyanın aynı anlamı çıkaracağı şekildedir.

Bu cümleler "minimal hikâye" ile ilgili doğru-yanlış olarak değerlendirildiğinde sıralama aşağıdakilerden hangisi olur?

- A) Y – D – Y B) Y – D – D
C) D – Y – D D) D – Y – Y

15. Aşağıdakilerden hangisi saf (öz) şiir anlayışının edebiyatımızdaki temsilcilerinden değildir?

- A) Nazım Hikmet Ran
B) Cahit Sıtkı Tarancı
C) Necip Fazıl Kısakürek
D) Ahmet Hamdi Tanpınar

16. Sen de geçebilirsin yardan, anadan, serden...
Senin de destanını okuyalım ezberden...
Haberin yok gibidir taşıdığın değerden...
Eldede sensin, dilde sen; gönüldesin baştasın...
Fatih'in İstanbul'u fethettiği yaştasın!

Bu dizeler şekil ve içerik bakımından değerlendirildiğinde aşağıdaki sanatçılardan hangisine aittir?

- A) Orhan Veli Kanık
B) Arif Nihat Asya
C) Edip Cansever
D) Küçük İskender

17. Aşağıdakilerden hangisi Garipçiler'in savunduğu şiir görüşlerinden değildir?

- A) Tüm şiir gelenekleri reddedilmiştir.
B) Şiiri günlük konuşmadan ayıran özellikler yok sayılmalıdır.
C) Yergi ve mizahtan yararlanılmalıdır.
D) Aydın kesimin duygularına hitap edilmelidir.

18. Aşkımın temeli sen bir âlemsin
Sevgi muhabbetsin dilde kelâmsın
Merhabasın dosttan gelen selâmsın
Duyarak alırım sen varsın orda

Bu dizeler ile ilgili aşağıdakilerden hangisi söylenebilir?

- A) 7'li hece ölçüsüyle yazılmıştır.
B) Sarmal uyak örgüsü kullanılmıştır.
C) Nazım birimi dördüktür.
D) Konusuna göre pastoraldir.

1. OTURUM

19. Sabah
İşe gidiyorum
Erkenci işçiler kuruyan topraklar
Çalışmaya zorlanan küskün çocuklar
Onlarsız düşünemiyorum
Kara bir gökkuşağı sunan
Şehirle uğuldayan sesi
Görüyorum
Loş hanlarda çınlayan
Durunca acı su
Dinleyince yanan sesi

Bu dizeler şekil ve içerik bakımından değerlendirildiğinde aşağıdaki anlayışlardan hangisine ait olabilir?

- A) Toplumcu şiir
B) Halk şiiri
C) İkinci Yeni
D) Saf (öz) şiir

20. Bir yolcu bekliyorum
Nasıl da hasretliyim
Adı neydi unuttum
Yıllardır kederliyim

Bir yolcu bekliyorum
Bilmiyorum nereden
Belki bir meltem gibi
Esiverir göklerden

Bu dizelerde aşağıdakilerden hangisine yer verilmemiştir?

- A) Hüzün
B) Şaşkınlık
C) Umut
D) Özlem

(548) TÜRK DİLİ VE EDEBİYATI – 8

1. Aşağıdakilerden hangisi söylevin amaçlarından değildir?

- A) Bir bilimsel bilgiyi açıklamak
B) Dinleyicileri bir hedefe yönlendirmek
C) Bir fikri veya duyguyu insanlara aşılacak
D) Dinleyici topluluğunu coşturmak

2. Bir türkü duyulur... Gecede başka türlü, gündüzde başka türüdür. Çocuk söylese başka tatta, kadın söylese... Genç söylese başka türlü olur, yaşlı söylese... Dağda söylenirse başka, ovada, ormanda, denizde başka türüdür. Hep ayrı ayrı tattadır. Sabahleyin başka; öğle, ikindi, akşamleyin başkadır.

Bu parçada aşağıdaki düşünceyi geliştirme yollarından hangisi kullanılmıştır?

- A) Tanımlama
B) Tanık gösterme
C) Örnekleme
D) Karşılaştırma

3. Türk edebiyatında, - - - - Orhun Yazıtları'nda Türk milletine sesleniş ilk söylev, kendisi de ilk hatip olarak kabul edilir.

Bu cümlede boş bırakılan yere aşağıdakilerden hangisi getirilmelidir?

- A) Bilge Kağan'ın
B) W. Thomsen'in
C) Tonyukuk'un
D) V. Radloff'un

4. I. Aynı gün boyunca aralıklarla yapılan konuşmadır.

II. Meydana gelen önemli olayları sebep-sonuç ilişkisi içerisinde anlatır.

III. Gelecek nesilleri karşılaşılabilecekleri tehlikelere karşı uyarmak amaçlarından biridir.

IV. Osmanlı Devleti'nin kuruluşu hakkında bilgi verir.

Mustafa Kemal Atatürk'ün "Nutuk" adlı eseriyle ilgili numaralanmış cümlelerden hangileri yanlıştır?

- A) I ve II.
B) I ve IV.
C) II ve III.
D) III ve IV.

5. Efendiler, iki ordu çarpışıyor mu? Çarpışan iki fikirdir. Aylarca, senelerce müddet; bu yamaçlarda, bu boğazlarda, bu bellerde Yunanlılık fikri ile Türklük fikri iki pehlivan gibi çarpışıp durdu. 30 Ağustos: Sen bir inhidama şahitsin! 31 Ağustos, Türk'ün demirine musallat olmuş ne kadar pas varsa senin umumî tasfiye yapan mübarek ateşinde eridi.

Bu parça aşağıdaki söylev türlerinin hangisinden alınmış olabilir?

- A) Akademik
B) Siyasi
C) Hukuki
D) Dinî

6. Oysa şimdi karıncaları düşünüyordu. Sinemaya gitse, biliyordu, başının ağrısı artacak, içinde hep o bir yere geç kaldığı duygusu olacaktı. O yer belki de burasıydı. "Neden olmasın? Onu bu şehrin bir yerinde görmeyecek miyim? İşlerine çabuk varmak telaşındaki şu karınca sürüsünün arasına karışmaktan şaşımış, neden bu camın önünden geçmesin?" Kulakları caddenin gürültüsüyle doluydu.

Bu parça aşağıdaki roman anlayışlarının hangisiyle yazılmış olabilir?

- A) Gelenekçi
B) Millî edebiyat zevk ve anlayışını sürdüren
C) Toplumcu gerçekçi
D) Bireyin iç dünyasını esas alan

7. Roman türünün dünya edebiyatındaki ilk başarılı örneği aşağıdakilerden hangisidir?

- A) Robinson Crusoe
B) Gülliver'in Gezileri
C) Don Kişot
D) Simyacı

8. Aşağıdaki parçalardan hangisi tanrısız (hakim) bakış açısıyla yazılmıştır?

- A) Kerim yanağının kanamasına aldırmadan Demircan'ın eski savaşçı urbalarını giydi, silahları kuşandı. Anasına artık acımıyordu, kızımıyordu da...
B) Bir an, bir yerden o eve, taraçaya, bahçeye bir ışık çakmış; ben çakan ışığın düştüğü yerde bazı şeylerin izdüşümünü görmüştüm.
C) Yetmiş üç yaşındayken, bir kış günü, birlikte Beyoğlu'na çıkacaktık. Biriktirdiğimiz paralarla kendimize karşılıklı birer hediye alacaktık.
D) Ben onun evdeki mazlumluğunu, bana karşı takındığı gözü yaşlı, anlayışlı baba hâlini severdim. Duvarına kedi fotoğraflı takvim kartonlarını asışını severdim.

9. Taşbaşıoğlu'nun evi bir gözcüktü. Ocağı büyüktü. Kamyandan örtmüştü ocaklığın üstünü. Çamurla sıvamıştı. Duvarlar da ak toprakla sıvalıydı. Öteki evlerin örülmüş, gelişigüzel üst üste konmuş duvarlarına hiç benzemiyordu. Yerden beş karış yukarısına kadar da türlü türlü nakışlamıştı. Taşbaşıoğlu, bir dünya koymuştu duvarına.

Bu parçada romanın yapı unsurlarından hangisine yer verilmemiştir?

- A) Zaman
B) Olay
C) Kişi
D) Mekân

10. Halit Ayarcı'nın akrabasından olduğunu bildiğim kalem şefimiz Nermin Hanım beni görür görmez kırk yıllık ahbab gibi sevindi. İş için elindeki örgüyü bile bırakmıştı. Nermin Hanım'ın daha o gün ya örgü ördüğünü yahut konuştuğunu öğrendim. Daha doğrusu daima konuşur, yalnız kalınca örerdi.

Bu parçada kullanılan anlatım biçimi aşağıdakilerden hangisidir?

- A) Açıklama
B) Betimleme
C) Tartışma
D) Öyküleme

1. OTURUM

11. Türk tiyatrosunun 1960'lardaki gelişimi için aşağıdakilerden hangisi söylenemez?

- A) Seyirci sayısı ve özel tiyatrolar artar.
B) Oyun yazarlığı, nicelik ve nitelik açısından bir durgunluk yaşar.
C) Tiyatro sanatı konusunda bilimsel araştırmalar çoğalır.
D) Osmanlı tarihi, halk kahramanlarının yaşamları ve mitoloji ile ilgili oyunlar yazılır.

12. Aşağıdakilerden hangisi geleneksel Türk halk tiyatrosu türlerindedir?

- A) Dram
B) Komedi
C) Meddah
D) Trajedi

13. • Nazım ve nesir şeklinde yazılabilir.
• Hem üzen hem de güldüren olaylar konu edilir.
• "Üç birlik" kuralına uygun olarak kaleme alınır.

Bu cümleler "dram" ile ilgili doğru-yanlış olarak değerlendirildiğinde sıralama aşağıdakilerden hangisi olur?

- A) D – Y – D
B) D – D – Y
C) Y – D – Y
D) Y – Y – D

14. **HACİVAT** –(Şarkı söyleyerek perdeye gelir.)

Gördün de beni bendettin,
Ne suçum görüp aman terk ettin,
Ağyar ile ülfet ettin,
Ne suçum görüp aman terk ettin!

Ooof, hay Hak!

Bu parça aşağıdaki tiyatro türlerinin hangisinden alınmıştır?

- A) Dram
B) Trajedi
C) Orta oyunu
D) Karagöz

15. Aşağıdaki cümlelerin hangisinde yazım yanlışı vardır?

- A) Biz bu mesleği öğrenmeye ve öğretmeye ömrümüzü verdik.
B) Kıran kırana geçen dünkü karşılaşmanın kazananı dostluk oldu.
C) Arka sokakta açılan oyuncakçı dükkânının satışları artıyor.
D) Hava epey soğuk görünüyor, ceketini giymeyi unutma.

16. Uzun yıllar var, insanı gürlütüden, sokaktan koparıp kendi derinliklerine götüren şiirler pek görülmüyor. Neden? Sessizlikler mi çekildi? Neredesiniz içimize birer ateş damlası gibi düşerek bizi düşle gerçeğin birleştiği, acının bile lezzet olduğu yerlere götüren şiirler?

Bu parça aşağıdaki metin türlerinin hangisine örnektir?

- A) Deneme
B) Fıkra
C) Makale
D) Söylev

17. Klasik denemede;

- yazar nesnel bir tutum sergiler.
- tüm insanlığı ilgilendiren konular ele alınır.
- dünya edebiyatındaki en önemli temsilci François Bacon olarak kabul edilir.

Bu cümleler doğru-yanlış olarak değerlendirildiğinde sıralama aşağıdakilerden hangisi olur?

- A) Y – D – Y
B) Y – Y – D
C) D – D – Y
D) D – Y – D

18. Her yazar kendi elinden çıkanın güzel, kendi düşüdüklarının doğru olduğuna inanır. Güzelliği; o doğruluğu sezme için uğraşmayanların anlamadıkları, anlamayacakları kanısındadır. Ama bir kısmı, kendileri için beklemediklerini başkaları için neden yapmıyorlar? Ben sizin yazdığınızı okuyayım, ilgileneyim sizinle; peki, siz benim yazdıklarımı neden okumuyorsunuz? Birbirlerinin yazılarını neden okumuyorlar?

Bu parçada bazı yazarlarla ilgili aşağıdakilerin hangisinden yakınılmaktadır?

- A) Yaptıkları eleştirilerin düzeyli olmadığından
B) Başkalarının eserlerine yaklaşmalarının yanlış olduğundan
C) Eserlerinin okur tarafından beklenen ilgiyi görmediğinden
D) Yeterli sayıda eser okumadıklarından

19. Kaynar kükürt havuzlarındaki balıklar () yüksek radyasyon altında ölüp sonra dirilen bakteriler () "hayat" kavramına yeni anlamlar getiren organizmalar () Son araştırmalar bilim insanlarını daha önce yaşamın olamayacağına inanılan ortamlarda yeni canlılarla tanıştırdı ()

Bu parçada ayrıca gösterilen yerlere sırasıyla aşağıdaki noktalama işaretlerinden hangileri getirilmelidir?

- A) (,) (;) (,) (.)
B) (,) (;) (,) (...)?
C) (,) (;) (,) (!)
D) (,) (,) (...)

20. Aşağıdakilerden hangisi bir paragrafın giriş cümlesi olabilir?

- A) Üstelik seramik sanatı literatürüne "üretimi imkânsız seramik" olarak girmek gibi bir ayrıcalığı var İznik çinisinin.
B) Küre'de, ahşap güzeli bir evin kapı arkasında doğduklarında ise lapa lapa kar yağıyordu.
C) Ekonomik durumu, hayat tarzı, yaşı, cinsiyeti ne olursa olsun insanların aynı duyguda buluşturan yegâne araçtır bisiklet.
D) Bu tarihlerde yolunuz Madrid'e düşerse valizinizde olabildiğince çok seçenek bulundurun.

(609) SEÇMELİ MATEMATİK – 2

$$1. \begin{cases} x + y = 6 \\ x^2 + 4xy = -60 \end{cases}$$

denklemlerin çözüm kümesi aşağıdakilerden hangisidir?

- A) $\{(-2, 8), (10, -4)\}$
B) $\{(8, -2), (-4, 10)\}$
C) $\{(2, 4), (-10, 16)\}$
D) $\{(4, 2), (16, -10)\}$

2. $a + b = 6$ ve $a^2 + b^2 = 24$ olduğuna göre $a \cdot b$ kaçtır?

- A) 36
B) 24
C) 12
D) 6

3. $x^2 - 3x - 40 < 0$ eşitsizliğinin çözüm kümesi aşağıdakilerden hangisidir?

- A) $(-\infty, -5) \cup (8, \infty)$
B) $(-5, 8)$
C) $(-\infty, -5)$
D) $(8, \infty)$

4. $3x^2 + 4x \geq 2x^2 + 5x + 42$ eşitsizliğini sağlayan x tam sayılarının toplamı kaçtır?

- A) -13
B) -6
C) 6
D) 13

5. $(x^2 - 5x + 6)(x^2 - 9) < 0$ eşitsizliğinin çözüm kümesi aşağıdakilerden hangisidir?

- A) (2, 3)
B) $(-\infty, -3) \cup (2, 3)$
C) (-3, 2)
D) $(-\infty, 2)$

1. OTURUM

6. $x^2 - 6x + a + 2 > 0$ eşitsizliği $\forall x \in \mathbb{R}$ için sağlandığına göre a'nın alabileceği en küçük tam sayı değeri kaçtır?

- A) 5 B) 6 C) 7 D) 8

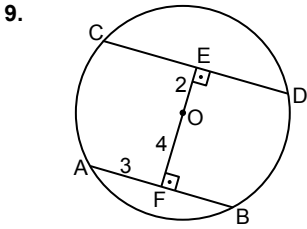
7. $\frac{x \cdot (x - 4)}{x^2 - 2x - 15} \leq 0$ eşitsizliğini sağlayan x tam sayılarının toplamı kaçtır?

- A) -3 B) -2 C) 1 D) 3

8. $\left. \begin{array}{l} \frac{x-4}{2-x} < 0 \\ 3x-15 \geq 0 \end{array} \right\}$

eşitsizlik sisteminin çözüm kümesi aşağıdakilerden hangisidir?

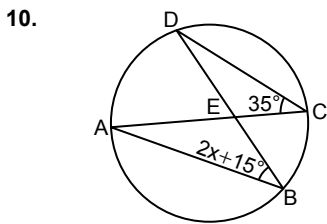
- A) \emptyset B) (2, 4)
C) [5, ∞) D) $(-\infty, 2) \cup (4, 5)$



Şekildeki A, B, C, D noktaları O merkezli çember üzerinde, $[OF] \perp [AB]$, $[OE] \perp [CD]$ ve $|OE| = 2$ cm, $|OF| = 4$ cm, $|AF| = 3$ cm'dir.

Buna göre $|CE|$ kaç santimetredir?

- A) 5 B) $\sqrt{21}$
C) 4 D) $\sqrt{3}$

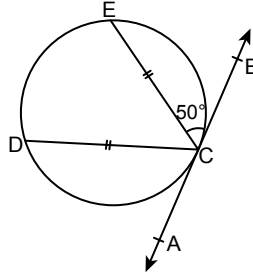


Şekildeki A, B, C, D noktaları çember üzerinde ve $m(\widehat{ABD}) = 2x + 15^\circ$, $m(\widehat{ACD}) = 35^\circ$ dir.

Buna göre x kaç derecedir?

- A) 10 B) 15 C) 20 D) 25

11.

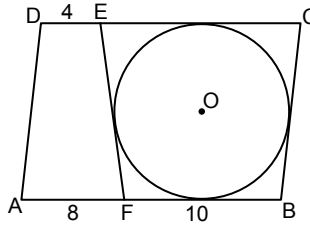


Şekildeki C, D, E noktaları çember üzerinde, AB doğrusu çembere C noktasında teğet, $|EC| = |DC|$ ve $m(\widehat{BCE}) = 50^\circ$ dir.

Buna göre $m(\widehat{DCE})$ kaç derecedir?

- A) 110 B) 100 C) 90 D) 80

12.

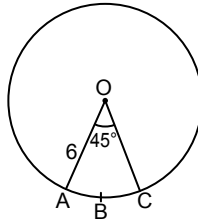


Şekilde ABCD paralelkenar, $E \in [DC]$, $F \in [AB]$ ve FBCE dörtgeninin tüm kenarları O merkezli çembere teğettir. $|DE| = 4$ cm, $|AF| = 8$ cm, $|FB| = 10$ cm'dir.

Buna göre AFED yamuğunun çevresinin uzunluğu kaç santimetredir?

- A) 18 B) 24 C) 32 D) 36

13.

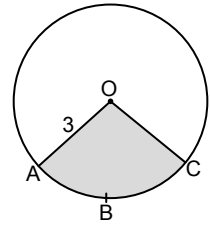


Şekildeki A, B, C noktaları O merkezli çember üzerinde, $|OA| = 6$ cm ve $m(\widehat{AOC}) = 45^\circ$ dir.

Buna göre $|\widehat{ABC}|$ kaç santimetredir?

- A) $\frac{\pi}{2}$ B) π C) $\frac{3\pi}{2}$ D) 3π

14.

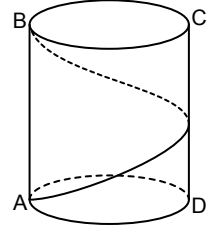


Şekildeki A, B, C noktaları O merkezli çemberin üzerinde ve $|OA| = 3$ cm'dir.

Boyalı bölgenin alanı 3π cm² olduğuna göre $m(\widehat{AOC})$ kaç derecedir?

- A) 90 B) 120 C) 140 D) 150

15.



Taban yarıçapının uzunluğu 4 birim, yüksekliği 8π birim olan dik dairesel silindirik biçimindeki bir kutunun alt tabanı üzerindeki A noktası ile üst tabanı üzerindeki B noktası aynı doğru üzerindedir.

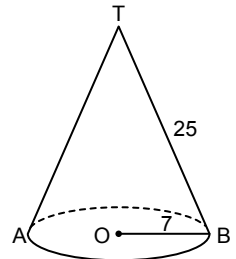
Şekildeki gibi, A dan hareket edip kutunun yalnızca yanal yüzeyi üzerinde tek bir dolanım yaparak en kısa yoldan B'ye giden bir karınca'nın aldığı yolun uzunluğu kaç birimdir?

- A) $8\pi\sqrt{2}$ B) 8π
C) $4\pi\sqrt{2}$ D) 4π

16. Dik dairesel koninin hacmi

$$\frac{\text{Taban Alanı} \cdot \text{Yükseklik}}{3}$$

formülü ile hesaplanır.



Şekildeki tepe noktası T, taban merkezi O olan dik dairesel konide $|OB| = 7$ cm ve $|BT| = 25$ cm'dir.

Buna göre bu koninin hacmi kaç santimetreküptür?

(π yerine 3 alınır.)

- A) 392 B) 504 C) 1176 D) 1225

1. OTURUM

17. Yarıçapının uzunluğu r olan kürenin yüzey alanı $4\pi r^2$ ve hacmi $\frac{4}{3}\pi r^3$ formülleri ile hesaplanır.

Yüzey alanı $64\pi \text{ cm}^2$ olan kürenin hacmi kaç santimetreküptür?
(π yerine 3 alınız.)

A) 256 B) 128 C) 64 D) 32

18. İki zar atıldığında üst yüzlerine gelen sayıların çarpımının 12 olduğu bilindiğine göre bu iki sayının çift sayı olma olasılığı kaçtır?

A) $\frac{1}{4}$ B) $\frac{1}{2}$ C) $\frac{3}{4}$ D) 1

19. Bir torbada renkleri dışında özdeğ 6 kırmızı, 8 sarı renkli bilye vardır.

Buna göre torbaya geri atılmamak şartıyla art arda yapılan rastgele iki çekilişte aynı renkte bilye çekilme olasılığı kaçtır?

A) $\frac{43}{98}$ B) $\frac{43}{91}$ C) $\frac{51}{98}$ D) $\frac{51}{91}$

20. E örnek uzayında A ve B olayları

için $P(A) = \frac{1}{3}$, $P(B) = \frac{1}{2}$ ve

$P(A \cap B) = \frac{1}{12}$ olduğuna göre

$P(A \cup B)$ kaçtır?

A) $\frac{1}{2}$ B) $\frac{7}{12}$ C) $\frac{2}{3}$ D) $\frac{3}{4}$

(611) DİNLER TARİHİ – 1

1. "Sizin dininiz size, benim dinim de banadır."

(Kâfirûn suresi, 6. ayet)

Bu ayette geçen "din" kelimesi hangi anlamda kullanılmıştır?

A) İnanç
B) Ahlak
C) Örf ve âdet
D) Hesap ve ceza günü

2. İslam âlimlerinin yapmış olduğu "din" tanımlarında aşağıdakilerden hangisine yer verilmemiştir?

A) İlahi kaynaklı olduğuna
B) İnsanları hayır olana yönelttiğine
C) Akli ve özgür iradeyi esas aldığına
D) Bir mabet etrafında şekillendiğine

3. Mensubu bulunan veya bulunmayan geçmişte ya da günümüzde yaşayan tüm dinler, dinler tarihinin - - - oluşturur.

Bu metinde boş bırakılan yere aşağıdakilerden hangisi getirilmelidir?

A) amacını B) kaynaklarını
C) konusunu D) metodunu

4. Aşağıdakilerden hangisi bir dinin kurumsallaşmasını gerektiren sebeplerden biri değildir?

A) Varlığını devam ettirebilmek
B) İnananlarını bir arada tutabilmek
C) Mesajını başka topluluklara ulaştırabilmek
D) Vicdanlarda yaşanan olgu hâline gelebilmek

5. İslam tarihinde diğer dinler hakkında bilgi verme geleneği aşağıdakilerden hangisi ile başlamaktadır?

A) Hz. Peygamber dönemi
B) Sahabe dönemi
C) Tabiîn dönemi
D) Mezhepler dönemi

6. Aşağıdakilerden hangisi dinler tarihinin sahip olduğu özelliklerden biridir?

A) Kural koyuculuk
B) Yargılayıcılık
C) Savunmacılık
D) Tarafsızlık

7. Aşağıdakilerden hangisi Müslümanların diğer dinleri öğrenme sebeplerinden biri değildir?

A) İslam inanç esaslarını belirlemek
B) Din hizmetlerini daha verimli hâle getirmek
C) İslam'a karışmış olan hurafeleri tespit etmek
D) Diğer din mensupları ile sağlıklı iletişim kurmak

8. Aşağıdakilerden hangisi İslam tarihinde Mekke dönemine ait bir olaydır?

A) Mekke'nin Fethi
B) Sosyal ve ekonomik boykot
C) Hendek Savaşı
D) Medine Sözleşmesi

9. Aşağıdakilerden hangisi "İslam" kelimesinin anlamlarından biri değildir?

A) Davet etmek
B) Allah'a yönelmek
C) Allah'a teslim olmak
D) Tevhid inancını kabul etmek

10. Peygamberlerin, günahattan uzak durmalarını ifade eden kavram aşağıdakilerden hangisidir?

A) Fetanet B) Emanet
C) İsmet D) Tebliğ

11. Hz. İbrahim ve soyunu, kurucu atalar olarak kabul eden din aşağıdakilerden hangisidir?

A) İslamiyet B) Sabiilik
C) Mecusilik D) Yahudilik

12. Yahudi inanç esaslarının temelini aşağıdakilerden hangisi oluşturur?

A) Kutsal toprak düşüncesi
B) Tanrının birliği
C) Ahiretin varlığı
D) Mesihçilik

13. Aşağıdakilerden hangisi günümüz Yahudi akımlarının ortaya çıkma sebeplerinden biri değildir?

A) Fransız ihtilalinin etkisi
B) Yahudi aydınlanma hareketi
C) Beklenen mesihin gelmemesi
D) Kudüs'ün Hz. Davut tarafından fethedilmesi

14. • Kilise ve devlet bütünleşmesi meydana gelmiştir.
• Misyonerlik faaliyetleri artmıştır.
• Haçlı seferleri yapılmıştır.

Bu olaylar Hristiyanlığın aşağıdaki dönemlerinden hangisinde gerçekleşmiştir?

A) Hz. İsa Dönemi
B) Havariler Dönemi
C) Orta Çağ Dönemi
D) Modern Dönem

15. Aşağıdakilerden hangisi Evanjelic Kilisesi ile ilgili bir bilgi değildir?

A) Martin Luther öncülüğünde ortaya çıkmıştır.
B) Öğretileri kabul eden kişinin yeniden doğduğuna inanılır.
C) Bireysel dindarlık ve dinî tecrübe önemlidir.
D) Kutsal Kitap lafzı olarak okunur.

1. OTURUM

16. • Dine giriş ve asli günahtan kurtuluş için su ile yapılan bir arınma ayinidir.
• Kişinin, İsa ile bütünleşmesini sembolize eden ekmeğe-şarap ayinidir.
• Kiliseye kabul ve iman güçlendirme için yapılan ayinidir.

Bu bilgilerde aşağıdaki kavramlardan hangisine yer verilmemiştir?

- A) Konfirmasyon
B) Hasta yağlama
C) Komünyon
D) Vaftiz

17. Hristiyanlığa göre İsa'nın çarmıha gerildiğine, gömüldüğüne ve dirileceğine inanılan yerde yapılmış mabet aşağıdakilerden hangisidir?

- A) Süleyman Mabedi
B) Meryem Ana Kilisesi
C) Kıyamet Kilisesi
D) Deyru'z-Zaferan

18. Tevrat'ta olmamasına rağmen Yahudi din bilginlerinin yorumları ile inanç esaslarına dâhil ettiği konu aşağıdakilerden hangisidir?

- A) Ahit
B) Ahiret
C) Kutsal Toprak
D) Peygamberlik

19. Aşağıdakilerden hangisi Yahudilikte Tanrı için kullanılan isimlerden biridir?

- A) Tien
B) Brahma
C) Yehova
D) Ahura Mazda

20. Aşağıdakilerden hangisi On Emir'de yasaklanan davranışlardan biri değildir?

- A) Zina yapmak
B) Adam öldürmek
C) Şirk koşmak
D) Rüşvet almak

2. Edebiyat, insanın davranışlarına, düşüncelerine ve duygularına yön veren bilinçaltı süreçleri ortaya çıkarmaya çalışır. Bununla birlikte bir edebî eseri incelerken de kahramanların davranışlarını anlamlandırabilmek ve metni doğru yorumlayabilmek çok önemlidir.

Bu parçada edebiyatın hangi bilim dalı ile ilişkisi üzerinde durulmuştur?

- A) Tarih
B) Psikoloji
C) Sosyoloji
D) Dil bilim

3. "Dil" ile ilgili aşağıdakilerden hangisi söylenemez?

- A) Bir iletişim aracıdır.
B) Sosyal bir yapıya sahiptir.
C) Değişimlere kapalıdır.
D) Kültürü oluşturan unsurlardandır.

4. Türkçenin bilinen ilk sözlüğünün yazarı aşağıdakilerden hangisidir?

- A) Kaşgarlı Mahmut
B) Şemsettin Sami
C) Ahmet Vefik Paşa
D) Mustafa bin Şemsettin

5. • Sözlükler, ait oldukları milletin kültürel değerlerini ve yaşama tarzını yansıtır.
• Çeşitli kurum ve kişiler tarafından farklı türde sözlükler hazırlanabilir.
• Lehçe-i Osmanî, Türkçenin derlenen ilk sözlüğüdür.

Bu cümleler doğru-yanlış olarak değerlendirildiğinde sıralama aşağıdakilerden hangisi olur?

- A) D – Y – D
B) Y – D – Y
C) Y – Y – D
D) D – D – Y

6. Ömür ki bir kurak çöl,
Onu tek bir güne böl,
Şeb-nem gibi doğ ve öl
Yıldızlı bir gecede.

Bu dizelerdeki altı çizili sözcükler arasındaki anlam ilişkisi aşağıdakilerden hangisidir?

- A) Zıt anlamlılık
B) Eş anlamlılık
C) Yakın anlamlılık
D) Eş seslilik

7. Bu bir sırdır açamam ki hâlimi

I
Onun için sıkı tuttum dilimi
II
Sana doğru uzatınca elimi
III
Omuzdan aşağı kolum titiyor
IV

Bu dizelerdeki numaralanmış sözcüklerden hangisinin eş seslisi yoktur?

- A) I. B) II. C) III. D) IV.

8. Aşağıdaki cümlelerin hangisinde soyut anlamlı bir sözcük kullanılmıştır?

- A) Kardeşinin elini tutup yarasını inceledi.
B) Esen rüzgâr, saçlarını bir o yana bir bu yana savuruyor.
C) Yolunda giden en küçük şey onun hayata biraz daha umutla bakmasını sağlar.
D) Her günkü gibi radyo dinleyerek yemek yapmaya başlamış.

9. Hatıralar () özleyişler ve üzüntüler () Onların insafsız ısrarı ile sen () küçük sen nasıl boğuştu ()

Bu parçada ayrıla gösterilen yerlerden herhangi birine aşağıdaki noktalama işaretlerinden hangisi getirilemez?

- A) (.) B) (,) C) (?) D) (...)

10. I. Kahramanların psikolojileri tüm ayrıntılarıyla esere yansıtılır.
II. Dış dünya, yazar tarafından algılandığı gibi değil olduğu gibi anlatılır.
III. Anlatımda bilinç akışı, iç çözümleme ve iç monolog gibi teknikler kullanılır.

Numaralanmış cümlelerden hangileri bireyin iç dünyasını anlatmayı amaçlayan hikâyeler için söylenebilir?

- A) I ve II. B) I ve III.
C) II ve III. D) I, II ve III.

11. Elinden hiç bırakmadığı kırmızı beyaz mendil ile yüzünü silerken acı acı gülümsedi ve göğüs geçirdi.

Altı çizili söz grubunun cümleye kattığı anlam aşağıdakilerden hangisidir?

- A) Sert ve keskin bir biçimde
B) Çarpıcı, göz alıcı şekilde
C) Üzüntülü, dokunaklı olarak
D) Sıkıntısını, üzüntüsünü azaltarak

(621) SEÇ. TÜRK DİLİ VE EDEBİYATI – 3

1. Edebiyat ile ilgili aşağıdakilerden hangisi söylenemez?

- A) Duygu ve sevgiler ön plandadır.
B) Sanatlı bir söyleyiş ve kapalı bir anlatım vardır.
C) İmgelerle kurulmuş bir dil kullanılır.
D) Varlığın ve düşüncenin bilgisini araştırmak temel amacdır.

1. OTURUM

12. 1980 sonrası Türk hikâyesi için aşağıdakilerden hangisi söylenemez?

- A) Ortak bir sanat anlayışı ile hareket edilmiştir.
- B) Bireysel konular ağırlık kazanmıştır.
- C) Postmodernizmin imkânlarından faydalanılmıştır.
- D) Yeni arayışlarla farklı kurgu teknikleri denenmiştir.

13. Aşağıdaki parçalardan hangisi diğerlerinden farklı bir bakış açısıyla kaleme alınmıştır?

- A) Adam, delikanlı sayılabilecek bir yaşta idi. Yılların aslında pek uzun olmadığını yeni anlamıştı. Bir adımı, yılların kışalmaya başladığı çağa atılmıştı, öteki adımı henüz uzun yılların çağındaydı.
- B) Otobüs durağının önünde durduk, bakındık. Sıcak sürüyordu. Saçlarımın dibinden enseme inen ter sisini duyuyordum. Havaya ağır bir deniz kokusu sinmişti.
- C) Anne-kız, sabah kalabalığının arasında tedirgin yürüyorlardı. Annesi durmadan konuşuyordu. Böyle konuşkanlığının olduğu geçmişteki tek günü, hastaneye hastabakıcı olarak aldıkları gündü.
- D) Kapıya biraz kala sekmeye başladı Şükrüye. Oraya kadar koşsa bile son yedi metre gelince gecikmek, yolu uzatmak ister, tek ayakla sekmeye başladığı. Çok sevdiğine utandığı için mi ne?

14. Belki rüyalarıdır bu taze açmış güller, Bu yumuşak aydınlık dalların tepesinde. Bitmeden aşk türküsü kumruların sesinde, Rüyâsı ömrümüzün çünkü eşyaya siner.

Bu dizeler ile ilgili aşağıdakilerden hangisi söylenemez?

- A) Tanzimat Edebiyatı anlayışı ile oluşturulmuştur.
- B) Söyleyiş güzelliği önemsenmiştir.
- C) Tabiat görünüşlerinden faydalanılmıştır.
- D) Kişilerin ruh dünyasına seslenilmiştir.

15. Aşağıdakilerden hangisi "1940 Kuşağı" olarak adlandırılan toplumcu şairlerden biridir?

- A) İlhan Berk
- B) Sezai Karakoç
- C) Ahmed Arif
- D) Şeref Taşlıova

16. Gitsem de her yerde biraz vardır Hatırda zamansız bir plak Bir otel kapısı, biraz istasyon Vardır o seninle birlikte olmak Buluşur çok uzaktan ellerimiz Ve nasıl gözgözeyiz ansızın bir infilâk.

Bu dizeler şekil ve içerik bakımından değerlendirildiğinde aşağıdaki anlayışlardan hangisine ait olabilir?

- A) Halk şiiri
- B) Millî Edebiyat
- C) Toplumcu şiir
- D) II. Yeni

17. Ben ki ölümsüzlüğe ermişim deşe deşe Ülküleri düşünceleri düşleri insan çiçeğini Aşmışım kaç kere Hızır Ab-ı Hayatın kemerini Geçip çılgın gerçeğe devirerek büyü mendireğini

Bu dizeler ile ilgili aşağıdakilerden hangisi söylenemez?

- A) Metafizik anlayışla kaleme alınmıştır.
- B) Sosyal bir sorun dile getirilmiştir.
- C) İmgesel anlatım söz konusudur.
- D) Duygu dünyasına hitap edilmiştir.

18. Aşağıdakilerden hangisi Cumhuriyet Dönemi halk şairlerimizden biridir?

- A) Murat Çobanoğlu
- B) Haydar Ergülen
- C) Asaf Hâlet Çelebi
- D) Edip Cansever

19. Birden taş baskısı kitap kapaklarının birinden Hazreti Âli Düldülü'yle çıkıp geliyor alıp Hayber Geçidi'nden Kan Kalesi'ne

götürüyordu onları Zülfikar'la

ikiye böldüğü gecede. Gecenin bir dilimi soğuk çöl, öbürü kızaran şafak, kızan kumdu.

Bu dizelerdeki numaralanmış sözlerin hangisinde bir yazım yanlış yapılmıştır?

- A) I.
- B) II.
- C) III.
- D) IV.

20. Günümüzdeki anlamlarıyla verilen aşağıdaki sözcüklerden hangisi "anlam iyileşmesi"ne örnek gösterilebilir?

- A) Oğul: Erkek çocuğu
- B) Canavar: Yabani, yırtıcı hayvan
- C) Koca: Kadının eşi
- D) Yavuz: Yiğit, kahraman

(622) SEÇ. TÜRK DİLİ VE EDEBİYATI – 4

1. Mustafa Kemal Atatürk'ün 19 Mayıs 1919'dan 20 Ekim 1927'ye kadar gerçekleşen olayları anlattığı eseri aşağıdakilerden hangisidir?

- A) Nutuk
- B) Safahat
- C) İstiklâl Marşı
- D) Gök Türk Yazıtları

2. Aşağıdakilerden hangisi iyi bir haptipte bulunması gereken özelliklerden değildir?

- A) Ses tonunu, jest ve hareketlerini, vurgu ve tonlamayı ustaca kullanır.
- B) Herkesin anlayabileceği, yalın ve açık bir dil kullanır.
- C) Söyleyeceklerini duygu ve düşünce akışını bozmadan dile getirir.
- D) Dinleyicilerin ilgi ve tepkilerini göz ardı eder.

3. Söylevde;

- akıcı, içten, etkili ve coşturucu bir anlatım vardır.
- açıklayıcı anlatım türünden yararlanır.
- dil, ağırlıklı olarak dil ötesi işlevde kullanılır.

Bu cümleler doğru-yanlış olarak değerlendirildiğinde sıralama aşağıdakilerden hangisi olur?

- A) D – Y – Y
- B) D – D – Y
- C) Y – Y – D
- D) Y – D – Y

4. Sadece divan şairleri değil, halkımız da çiçeklerin, özellikle de gülün güzelliğini görme eğilimindedirler. Dilimizdeki güllü deyimler bu eğilimi açıkça göstermektedir. İyi babalar ailelerine gül gibi bakar; mutlu ve geçim sıkıntısı çekmeyen aileler gül gibi geçinip gider, çocuklarını el bebek gül bebek büyütürler. Kız çocuklarına gül gibi güzel olsunlar diye çokça güllü adlar verilir...

Bu parçada aşağıdaki düşünceyi geliştirme yollarından hangisi kullanılmamıştır?

- A) Benzetme
- B) Karşılaştırma
- C) Örnekleme
- D) Tanık gösterme

1. OTURUM

5. Yurtaşlarımız!

Az zamanda çok ve büyük işler yaptık. Bu işlerin en büyüğü, temeli, Türk kahramanlığı ve yüksek Türk kültürü olan Türkiye Cumhuriyeti'dir. Bundaki muvaffakiyeti, Türk milletinin ve onun değerli ordusunun bir ve beraber olarak azimkârane yürümesine borçluyuz. Fakat yaptıklarımızı asla kâfi göremeyiz! Çünkü daha çok ve daha büyük işler yapmak mecburiyetinde ve azmindeyiz.

Bu parça aşağıdaki metin türlerinin hangisinden alınmıştır?

- A) Tiyatro B) Deneme
C) Roman D) Söylev

6. Büyükkada'da. Temmuz iptidası. Öğle üstü. Güneşin eriyip toprakları, yaprakları kavrayıp kavurduğu, yalayıp parlattığı bir gün. Gökten dökülen sıcak, yanakları yakıyor, göğüsleri eziyor, nefesleri tıkıyor. Elle tutulabilir bir alev hâline geliyor. Ortalık, gözleri kamaştırarak derecede aydınlık... Karşıdaki çamlar yanık, siyah birer leke gibi duruyor.

Bu parçada kullanılan anlatım biçimi aşağıdakilerden hangisidir?

- A) Betimleyici B) Tartışmacı
C) Açıklayıcı D) Öyküleyici

7. Aşağıdakilerden hangisi Türkiye dışındaki çağdaş Türk edebiyatı yazarlarından?

- A) Yusuf Atılgan B) Sabahattin Ali
C) Cengiz Dağcı D) Attila İlhan

8. I. Kişilerin hayat hikâyeleri detaylar anlatılmadan aktarılır.
II. Tanınan bir sanatçının veya ünlü bir şahsın hayat hikâyesi anlatılır.
III. Kişilerin hayatıyla ilgili bilgiler, belgeler, hatıralar kurguyu etkilemeyecek şekilde esere yerleştirilir.
IV. Bu türün Türk edebiyatındaki ilk örneği Hasan Ali Yücel'in "Bir Bilim Adamının Romanı" adlı eserdir.

"Biyografik roman" ile ilgili bu cümlelerden hangileri yanlıştır?

- A) I ve II. B) I ve IV.
C) II ve III. D) III ve IV.

9. Aşağıdaki parçalardan hangisi diğerlerinden farklı bir bakış açısıyla yazılmıştır?

- A) Zihnini boşalttı ve dikkatini ruhunun karanlık atmosferine daldırıp çıkardı. Öfkesi devam ediyor. Nefretten başka ikinci his yok. Demek müspet alakalar, öfkenin yorulduğu anı beklemek için şuurun altına sınıyorlar.
B) Süreyya belki de ona, aslında Fransa üzerine iyi şeyler anlatmak istiyor. Fakat farkına varmaksızın Mehmet Ali'nin dayanak noktalarını sarsıyor. Hırpalıyor; içine ağır, pişmanlık gibi bulanık bir tortu çöktürüyor.
C) Hakikaten röportajdaki resimlerin birçoğu benim değildi. Beni at üstünde gösteren resim aşikâr şekilde bir İngiliz manzarasının ortasında idi. Kütüphanem diye tanımlanan yeri ömrümde görmemişim, göremezdim.
D) Evden eve gidip gelmeler, anlatmalar, dur durak bilmeden Memidik'e yeniden anlattırmalar. Bugün köyün en mutlu günü. Herkes bu hikâyenin tadında. İliklerine kadar bu hikâyeyi duyuyorlar.

10. Taklide dayalı olarak hikâyelerin anlatıldığı tek kişilik geleneksel Türk halk tiyatrosu türü aşağıdakilerden hangisidir?

- A) Trajedi B) Meddah
C) Karagöz D) Orta oyunu

11. Doktor Sevim'in köpeği, arabası ve kokusu ile evinde ve iş yerinde sürekli sergilediği etkileyici kişiliğinde seyredilmiş yüzlerce filmin etkisi vardı. Mutfağı bile daima böyledi. Aracını gerecini Amerikan pazarlarından, yemek tariflerini de İngiliz dergilerinden alırdı.

Bu parçada romanın yapı unsurlarından hangisine yer verilmemiştir?

- A) Mekân B) Kişi
C) Zaman D) Olay

12. Aşağıdakilerden hangisi "komedi" türünün özelliklerinden değildir?

- A) "Üç birlik" kuralına uyulur.
B) Kahramanları, soylular ve yüksek tabakadan kimselerdir.
C) Sahnede gülünç olaylara yer verilir.
D) Kaba şakalar, söz oyunları ve imalar içerir.

13. Aşağıdakilerden hangisi "radyo tiyatrosu"nun bir özelliği değildir?

- A) Diyaloglar önemli bir yer tutar.
B) Kostüm ve dekor kullanılır.
C) Müzik ve efektlere yer verilir.
D) Cümleler açık, anlaşılır ve kısadır.

14. PİŞEKÂR – Hani bu akşam seninle karşılıklı bilmece söyleyecektik?

KAVUKLU – Ne duruyorsun, haydi söyleyelim, başlayalım mı, ne dersin?

PİŞEKÂR – Başla bakalım, bu sefer de önce sen başla!

KAVUKLU – Başlıyorum işte: Yer altında kazan kaynar!

PİŞEKÂR – Aman şunun söylediği bilmeceye bakın, ayol onu beş yaşındakiler bile bilir; karınca yuvası!

Bu parça aşağıdaki tiyatro türlerinin hangisinden alınmıştır?

- A) Meddah
B) Karagöz
C) Orta oyunu
D) Köy seyirlik oyunu

15. I. Bir tablo ki ne renk ne de çizgi var; II. Fakat her hatıra içinde yaşar... III. Ve derinliğinden bizlere güler, IV. Kalbi kalbimizde çarpan ölümler

Numaralanmış dizelerin hangisinde yazım yanlışı vardır?

- A) I. B) II. C) III. D) IV.

16. Denemede;

- I. evrensel konular ele alınmakla birlikte konu sınırlaması yoktur.
II. kesin sonuçlara ulaşma, kesin bir değerlendirmeye gitme amacı vardır.
III. konu edilen düşünceler kanıtlanmaya çalışılır.
IV. yazar duygu ve düşüncelerini samimi bir şekilde dile getirir.

Numaralanmış cümlelerden hangileri doğrudur?

- A) I ve II. B) I ve IV.
C) II ve III. D) III ve IV.

1. OTURUM

(713) İSLAM KÜLTÜR VE MEDENİYETİ – 1

17. Televizyonlarımız, sanki abone olmuşçasına Edmond Rostand'ın Sirano de Berjörak'ını gösteriyor. Önceki akşam da baktım kırk yıllık aşına. Önce umursamadım. "Bıktık artık, dağarcıklarında başka bir şey yok mu?" dedim. Sonra yavaş yavaş ısındım. Hatta zaman zaman kirpikle-rim islanarak sonuna kadar da seyrettim bu kahraman şövalyenin su katılmadık aşkını.

Bu parça aşağıdaki metin türleri-nin hangisinden alınmıştır?

- A) Makale B) Tiyatro
C) Günlük D) Deneme

18. İlk bakışta şiirde üç şey görünür: Madde, şekil, mevzu. Şiirin maddesi-ni manalı sesler olan kelimeler teşkil eder. Şiirin şekline "nazım" denir ve bundan kelimelerin ahenkli bir düze-ne konulması, yani vezin anlaşılır. Şiirin anlattığı şeye de onun mevzu-su diyoruz.

Bu parçaya konulabilecek en uygun başlık aşağıdakilerden hangisidir?

- A) Şiirde Konu
B) Şiirin Unsurları
C) Şekil ve Ahenk
D) Şiirle Ses İlişkisi

19. I. Bu nedenle zirve dönüşünde çok dikkatli olmak gerekir.
II. Bu kazalardan korunmak için buz kazmaları inişte en büyük güven-cedir.
III. Erciyes'e çıkış yorar insanı.
IV. Çünkü kazaların çoğu dönüş sıra-sında oluyor.

Numaralanmış cümlelerle anlamlı bir paragraf oluşturulmak istenirse baştan ikinci cümle aşağıdakiler-den hangisi olur?

- A) I. B) II. C) III. D) IV.

20. Aşağıdaki cümlelerin hangisinde virgül (,) yanlış yerde kullanılmıştır?

- A) Dönüşte bize de uğrayıver, diye seslendi balkondan.
B) Hayır, böyle bir sözü hazmetmem mümkün değil!
C) Sen de, başını alıp gitme ne olur?
D) Kıymetli Hocam, sizi görmeyi ne çok arzuluyorum.

1. **Klasik İslam felsefesinde medeni-yet kavramını felsefi bir disiplin içinde tanımlayan ilk İslam düşü-nürü aşağıdakilerden hangisidir?**

- A) Farabî
B) İbn Haldun
C) Muhyiddin Arabî
D) İbn Rüşd

2. Müslümanlar tebliğ, fetih ve ticaret yoluyla diğer kültür ve medeniyetlerle sürekli ilişki içinde olmuşlar, onların inançlarını, düşünce sistemlerini, kavram ve kurumlarını, ekonomik sistemlerini, siyasi düzenlerini, ilmi miraslarını yakından tanımışlardır. Önyargısız ve etkileşime açık dav-ranmış ancak tevhid inancına aykırı olmamak kaydıyla bu deneyimlerden yararlanmışlardır.

Bu metinden İslam kültür ve mede-niyeti ile ilgili aşağıdakilerden han-gisine ulaşamaz?

- A) Allah'ın varlığı ve birliğine dayalıdır.
B) Objektif bir yaklaşım içindedir.
C) Yeniliklere ve gelişime açıktır.
D) Estetik ve sanat odaklıdır.

3. **Aşağıdakilerden hangisi Kurtuba Üniversitesi ile ilgili bir bilgi değildir?**

- A) Döneminin sayılı üniversitelerin-dendir.
B) el-Ezher'den önce inşa edilmiştir.
C) Belgrad şehrinde kurulmuştur.
D) Avrupa'daki ilk üniversitedir.

4. **İslamiyet'in doğduğu bölgeye coğ-rafi konum olarak en yakın mede-niyet aşağıdakilerden hangisidir?**

- A) Sami ve İran
B) Yunan-Roma
C) Uzak Doğu
D) Hint

5. **İslam medeniyetinin devlet teşkilatı, yönetim, askerlik ve mimari alanla-rında en çok faydalandığı medeni-yet aşağıdakilerden hangisidir?**

- A) Helen B) Bizans
C) Hint D) Çin

6. İslam, hikmet prensibinden hareketle, Müslümanları bilgece davranmaya ve kültür ayırımı yapmadan insanlığın ortak mirasına sahip çıkmaya yönlendirir. Bu nedenle İslamiyet'in getirdiği değişim, kendinden öncekilerin yok sayılması ve yok edilmesi üzerine kurulmamıştır.

Bu metinde İslam kültür ve mede-niyeti ile ilgili aşağıdakilerden han-gisine değilmemiştir?

- A) İlme değer verdiğine
B) Evrensel bakış açısına sahip oldu-ğuna
C) İnsanlığın farklı tecrübelerinden yararlandığına
D) Kur'an ve sünneti kaynak olarak kabul ettiğine

7. • Mimari eserlerde kubbenin merkez-de bulunması
• Kâbe örneğindeki gibi şehirlerin merkezinde mescit bulunması
• Sanat eserlerinde Allah'ın birliğine aykırı unsurlara yer verilmemesi

Bu bilgiler İslam kültür ve medeniye-ti esaslarından hangisine örnektir?

- A) Yerellik B) Evrensellik
C) Tevhit D) Özgünlük

8. "Allah, Âdem'e bütün varlıkların isim-lerini öğretti..."
(Bakara suresi, 31. ayet)

Bu ayette aşağıdakilerden hangisi vurgulanmaktadır?

- A) İnsanın yaratılmışların en şerefli-si olduğu
B) İlimin kaynağının Allah olduğu
C) İlk insanın Hz. Âdem olduğu
D) İslam'ın ilme önem verdiği

9. **Macarların, hakkında hikâyeler, şiirler ve makaleler yazdığı Türk dervîşi aşağıdakilerden hangisi-dir?**

- A) Ahmed Yesevi B) Yunus Emre
C) Sarı Saltuk D) Gül Baba

10. "Emanet ehline verilmez ise o toplu-luğun kıyameti yakındır."

Bu hadisten hareketle, İslam me-deniyetinin yönetim anlayışı ile ilgili aşağıdakilerden hangisine ulaşamaz?

- A) Adalet B) Liyakat
C) İstişare D) Doğruluk

1. OTURUM

11. "Uygunluk, yeterlilik ve yetenek" anlamlarına gelen kavram aşağıdaki-lerden hangisidir?

- A) Liyakat B) Takva
C) Emanet D) Meşruiyet

12. "Onlar, kendileri sevip istedikleri hâlde yoksula, yetime ve esire de yemek verirler. Ve şöyle derler; 'Biz sizi Allah rızası için doyuruyoruz; sizden ne bir karşılık ne de bir teşekkür bekliyoruz.'" (İnsân suresi, 8-9. ayetler)

Bu ayetlerde İslam toplumunu yönlendiren aşağıdaki ilkelerden hangisine işaret edilmektedir?

- A) Şecaat B) Güven
C) Adalet D) İsar

13. • Temel anlamı, fert, toplum, devlet ile kamu ahlakının ve düzeninin korunmasıdır.
• Temel amacı, insanlara iyiliği emredip kötülüklerden sakındırmaktır.
• Hz. Ömer zamanında tam teşkilatlı bir müessese hâline gelmiştir.

Hakkında bilgi verilen teşkilat aşağıdakilerden hangisidir?

- A) Ahilik B) Hisbe
C) Hilfu'l-Fudul D) Nakiblik

14. "Allah göğü yükseltti ve dengeyi koydu. Sakın dengeyi bozmayın." (Rahmân suresi, 7-8. ayetler)

Bu ayetler ile ilgili aşağıdakilerden hangisine ulaşamaz?

- A) İnsanların doğaya karşı sorumluluklarının olduğuna
B) Allah'ın her şeyi bir ölçüye göre yarattığına
C) Evrenin yaratıcısının Allah olduğuna
D) Her yaratılanın bir sonu olduğuna

15. Hz. Ebu Bekir, halifeliği döneminde devletin tüm gelirlerini hiç beklemeden insanların ihtiyaçlarını karşılamak için harcamıştır. Onun vefatından sonra, halife olan Hz. Ömer bir heyet huzurunda devlet hazinesini açmış ve sadece bir dinar bulmuştur.

Bu metinde aşağıdakilerden hangisi vurgulanmaktadır?

- A) Hz. Ebu Bekir'in devlet hazinesini halkın hizmetine sunduğu
B) Hz. Ömer'in devlet işlerini istişare ile yürüttüğü
C) Devletin halifelik sistemi ile yönetildiği
D) İlk halifenin Hz. Ebu Bekir olduğu

16. • Beytül mâl
• Divanül'î mâl
• Divan-ı istifa

Bu kurumların görevi aşağıdakilerden hangisidir?

- A) Ordu ile ilgili düzenlemeler yapmak
B) Uluslararası ilişkileri sağlamak
C) Mali işleri yönetmek
D) Siyasi kararlar almak

17. **Hadis rivayet eden kişi için kullanılan kavram aşağıdakilerden hangisidir?**

- A) Ravi B) Hafız
C) Kari D) Fakih

18. İslam kültür ve medeniyetinde cami, medrese, türbe ve kütüphane gibi eserlerin bir arada bulunduğu yapılar topluluğudur.

Tanımlanan kavram aşağıdakilerden hangisidir?

- A) Kervansaray B) Külliye
C) Divan D) Vakıf

19. **Sanayi-i Nefise Mektebi'nin karşılığı aşağıdakilerden hangisidir?**

- A) Mühendislik fakültesi
B) İşletme fakültesi
C) Güzel sanatlar fakültesi
D) Siyasal bilgiler fakültesi

20. **İslam tarihinde kurulan ilk rasathane aşağıdakilerden hangisidir?**

- A) Merâğa
B) Şemmasiye
C) Cacabey
D) Vacidiye

(817) AKAİD – 1

1. "De ki: 'Hak, Rabb'inizdendir; artık dileyen inansın, dileyen inkâr etsin...'" (Kehf suresi, 29. ayet)

Bu ayetten din ile ilgili aşağıdakilerden hangisine ulaşamaz?

- A) Dinin sahibinin Allah olduğuna
B) İnsanı muhatap aldığına
C) Hür iradeye dayandığına
D) Dünya ve ahiret dengesini sağladığına

2. **Bütün iman esaslarının kendisine bağlı bulunması sebebi ile "aslül-usûl" denilen iman esasları aşağıdakilerden hangisidir?**

- A) Allah'a iman
B) Ahirete iman
C) Kitaplara iman
D) Peygamberlere iman

3. **Aşağıdakilerden hangisi akaid ilminin amaçlarından biridir?**

- A) Hz. Peygamber'in doğumundan vefatına kadar hayatını incelemek
B) Günümüzde yaşayan tüm dinlerin inançları hakkında bilgi vermek
C) İslam inanç ilkelerini anlamak, delillendirmek ve savunmasını yapmak
D) Allah ve Resulü'nün ibadetlerle ilgili koymuş olduğu hükümleri tespit etmek

4. Akaid; doğrudan Kur'an ayetleri ve mütevatir hadislerdeki, hiçbir yoruma meydan vermeyecek biçimde açık ve net olan bilgilerden yararlanır.

Bu cümlede akaid ilminin aşağıdaki yönlerinden hangisi vurgulanmıştır?

- A) Tanımı B) Konusu
C) Amacı D) Kaynağı

5. **İslam akaidinin temel özellikleri ile ilgili,**

- I. fitrata uygundur,
II. değişebilir bir akidedir,
III. apaçık ve nettir

ifadelerinden hangileri söylenebilir?

- A) Yalnız II. B) Yalnız III.
C) I ve II. D) I ve III.

6. **Aşağıdakilerden hangisi akaid ilmine ait müstakil eseri bulunan âlimlerdendir?**

- A) Muhammed Hamdi Yazır
B) Ömer Nasuhi Bilmen
C) Muhammed Esed
D) Seyyid Kutub

7. **Aşağıdakilerden hangisi imanın temel rüknü kabul edilir?**

- A) Dil ile ikrar
B) İnsanın ameli
C) Kalp ile tasdik
D) İnsanların şahitliği

1. OTURUM

8. "Gönlü imanla dolu olduğu hâlde, zor altında olan kimse müstesna, inandıktan sonra Allah'ı inkâr edip gönlünü kâfirliğe açanlara Allah katından bir gazap vardır; büyük azap da onlar içindir."

(Nahl suresi, 106. ayet)

Bu ayette iman ile ilgili aşağıdaki-lerden hangisi çıkarılabilir?

- A) İbadet ile desteklenmelidir.
B) Özgür iradenin bir sonucudur.
C) Kesin bir bilgiye dayanmalıdır.
D) Dini ve akli delillerle kuvvetlendirilmelidir.
9. Bir kişi, namaz, oruç gibi ibadetlerin farz olduğunu; içki içme, adam öldürme gibi yasaklanan fiillerin haram olduğunu kesinlikle kabul ettiği hâlde farzları yerine getirmeyen, yasaklardan kaçınmazsa, imandan çıkmaz ama imanının olgunluğunu yitirmiş ve onu tehlikeye düşürmüştür.
- Bu açıklama aşağıdaki konuların hangisi ile ilgilidir?**
- A) İmanın sınıflandırılması
B) Örf ve âdetlerin dine etkisi
C) İman ile amel arasındaki ilişki
D) İbadet ile ahlak arasındaki ilişki

10. "Artık o çetin azabımızı gördükleri zaman 'Allah'a inandık ve O'na ortak koştuğumuz şeyleri inkâr ettik.' derler. Fakat azabımızı gördükleri zaman imanları kendilerine bir fayda veremeyecektir. Allah'ın kulları hakkında değişmeyen âdeti budur. İşte o zaman kâfirler hüsrana uğrayacaklardır."
- (Mü'min suresi, 84-85. ayetler)

Bu ayetlerde aşağıdakilerden hangisi vurgulanmaktadır?

- A) Ümidin tükendiği anda yapılan iman geçerli değildir.
B) İman esaslarından birini inkâr eden kişi mümin kabul edilmez.
C) Allah, şirk koşma dışında kalan günahları dilediğinde bağışlar.
D) Kişi, ne Allah'ın rahmetinden ümidini kesmeli ne de ondan emin olmalıdır.
11. Müslüman olduğu bilinen bir kişiyi, inkâr veya şirk özelliği taşıdığı iddiasıyla inanç, söz veya davranışından dolayı kâfir saymaya ne ad verilir?
- A) Nifak
B) İrtidat
C) Tekfir
D) Fisk

12. "De ki: 'O, Allah birdir. Her şey Allah'a muhtaçtır, O ise hiçbir şeye muhtaç değildir. O, doğurmamış ve doğmamıştır. O'nun hiçbir dengi yoktur.'" (İhlâs suresi)

Bu surede Allah ile ilgili aşağıdaki-lerden hangisine değinilmemiştir?

- A) Eşsiz ve tek olduğuna
B) Yüce ve güçlü olduğuna
C) Her türlü eksiklikten uzak olduğuna
D) Adalet ve merhamet sahibi olduğuna

13. **Âlemin sonradan yaratıldığı gerçeğinden yola çıkılarak elde edilen ve Allah'ın varlığı ile ilgili delil aşağıdakilerden hangisidir?**

- A) İmkân
B) Hudûs
C) Ekmel varlık
D) Gaye ve nizam

14. **Yüce Mevla'nın tüm isimlerinin yanında başka hiçbir varlıkta bulunmayan, başka hiçbir varlık için kullanılmayan, sadece O'na has olan ismi aşağıdakilerden hangisidir?**

- A) Allah
B) Azim
C) Hâdi
D) Hâlık

15. "...O'nun benzeri hiçbir şey yoktur. O; işitendir, görendir."
- (Şûrâ suresi, 11. ayet)

Bu ayette Allah'ın aşağıdaki sıfatlarından hangisine değinilmemiştir?

- A) Muhalefetün il'-havâdis
B) Kıyam bi-nefsihî
C) Basar
D) Semi

16. **Aşağıdakilerden hangisi Allah'a imanının insana kazandırdıklarından biri değildir?**

- A) Sorumluluk bilincini güçlendirmesi
B) Doğru ve güzel işler işlemeye teşvik etmesi
C) Tüm insanların beğenisini kazanmaya yöneltmesi
D) Sıkıntı ve zorlukların üstesinden gelmeye yardımcı olması

17. Allah'a teslimiyetin sembolü olarak fiziki âlemlerle, zaman ve mekân sınırları içerisinde yer almayan ilahlık makamı arasında köprü vazifesi görürler. Allah'ın birliğinin şahitleri sayıldığı gibi O'nun mesajlarının peygamberlere ve dolayısıyla insanlara iletilmesinin de ilk elden gözlemcileridir. Allah'ın, tabiatın yönetiminde kendilerine görevler yüklediği varlıklardır.

Bu metin, melekler ile ilgili aşağıdaki soruların hangisine cevap oluşturur?

- A) Nasıl yaratılmışlardır?
B) Sorumlulukları nelerdir?
C) Neyi temsil etmektedirler?
D) Varlık âlemindeki konumları nelerdir?

18. "Andolsun ki Peygamber onu, Sidretü'l-Müntehâ'nın yanında önceden bir defa daha görmüştü."
- (Necm suresi, 13-14. ayetler)

Bu ayetlerde aşağıdaki meleklerin hangisinden bahsedilmektedir?

- A) Azrail
B) İsrail
C) Mikâil
D) Cebrail

19. **Melekler ve cinler hakkında ortak olarak aşağıdaki yargılardan hangisi doğrudur?**

- A) Varlıkları ayet ile sabittir.
B) İradeli ve sorumludurlar.
C) Ateşten yaratılmışlardır.
D) Günah işlemezler.

20. **Aşağıdakilerden hangisi Kur'an-ı Kerim'de vahiy meleği için kullanılan isimlerden biri değildir?**

- A) Rûh
B) Resul
C) Cibril
D) İfrit

(819) KELAM – 1

1. Kalam ilminin konusu tevhid, nübüvvet ve ahiret olmak üzere üçe ayrılmaktadır.

Buna göre aşağıdakilerden hangisi nübüvvet konusu içinde yer almaz?

- A) Tebliğ
B) İlahi kitaplar
C) Allah'ın birliği
D) Peygamberliğin imkânı

1. OTURUM

2. İslam düşünce tarihinde inanç konuları üzerinde düşünen ve bu alanda ilk defa akla dayalı yöntemleri kullanan mezhep aşağıdakilerden hangisidir?

- A) Mürcie B) Cebriye
C) Haricilik D) Mutezile

3. "Mürtekibi kebire" kavramı aşağıdaki konulardan hangisi ile ilgilidir?

- A) Allah'ın ahirette görülüp görüleceği
B) Kur'an'ın yaratılıp yaratılmadığı
C) Büyük günah işleyenin durumu
D) İmamet meselesi

4. Aşağıdaki âlimlerden hangisi Ashabü'l-hadis akımına öncülük etmiştir?

- A) Ebu Mansûr el-Matürîdî
B) Ahmed bin Hanbel
C) Hâris el-Muhâsibî
D) İbn Küllâb

5. Gazzâlî, kelam ve felsefenin iç içe geçtiği dönemde, bir yandan İslam akaidiyle uyumlanmayan felsefi görüşleri eleştirmek amacıyla kelam ilmine ağırlık vermiş, diğer yandan da mantığı kelama dâhil etmiştir. Bu uygulamaya ile kelam ilmi yeni bir döneme girmiştir.

Bu dönem aşağıdakilerden hangisi ile isimlendirilir?

- A) Müteahhirîn
B) Mütekaddimîn
C) İlk Fikrî Hareketler
D) Tabiîn

6. Kelam ilminde yapılan tartışma ve açıklamalar, tefsir ilminde ayetlerin yorumlanmasında ve hadis ilminde de itikatla ilgili hadislerin anlaşılmasında belirleyici olmuştur. Aynı şekilde kelam ilmi de, iman esaslarını açıklarken tefsir ve hadis ilminin verilerinden faydalanmıştır.

Bu metinden aşağıdaki sonuçların hangisine ulaşılır?

- A) Kelam, İslam ilimlerinin temelini oluşturmaktadır.
B) İslami ilimler, disiplin olarak birbirleri ile ilişkilidir.
C) Tefsir ve hadis diğer İslami ilimlerden daha önce gelişmiştir.
D) Kelam, Kur'an ve sünnetin yanında akli da kaynak kabul etmektedir.

7. Tek tek olgulardan, genel önermelere varan, bilinen olgu ve olaylardan hareketle genel bir kurala ya da sonuca ulaşan akıl yürütmedir.

Bu tanım aşağıdaki kavramlardan hangisine aittir?

- A) Tümevarım B) Tümdengelim
C) Temsil D) Cedel

8. • İmam Mâtürîdî tarafından yazılmıştır.
• Naklin yanında akla da önem vermeyi vurgulayan ilk eserdir.
• Mukaddimesi hariç beş bölümden oluşmaktadır.

Hakkında bilgi verilen eser aşağıdakilerden hangisidir?

- A) el-Fıkhu'l-Ekber
B) el-İbâne an Usûli'd-Diyâne
C) Kitâbu't-Tevhîd
D) Yeni İlm-i Kelam

9. Bir kimse Allah'ın varlığına inanıp meleklerine inanmazsa veya peygamberlerin bir kısmına inanıp bir kısmına inanmazsa iman etmiş olmaz.

Bu açıklama itikadi hükümlerin aşağıdaki özelliklerinden hangisine örnek oluşturmaktadır?

- A) Açıklık B) Kesinlik
C) Değişmezlik D) Bölünmezlik

10. Akıl, var oluş ve gerçekleşme ile ilgili olarak üç türlü hüküm verir.

Aşağıdakilerden hangisi bunlardan biri değildir?

- A) Mümkün B) Mümteni
C) Nakli D) Vacip

11. "...De ki: Hiç bilenlerle bilmeyenler bir olur mu? Doğrusu, ancak akıl sahipleri hakıyla düşünür."
(Zümer suresi, 9. ayet)

Bu ayette aşağıdakilerden hangisinin önemi vurgulanmaktadır?

- A) İstişare etmenin
B) Doğru ve yeterli bilginin
C) Sorumluluk sahibi olmanın
D) Yardımlaşma ve dayanışmanın

12. Kur'an-ı Kerim'de Allah kendisini "ölümü söz konusu olmayan, ezelf ebedî hayat sahibi, diri" anlamında - - - - ve "hayat ve can veren" anlamında - - - - olarak nitelemektedir.

Bu cümlede boş bırakılan yerlere sırasıyla aşağıdaki Allah'ın isim ve sıfatlarından hangisi getirilmelidir?

- A) Rahman - Rahîm
B) Mümin - Müheymin
C) Semi - Basir
D) Hayy - Muhyi

13. Aşağıdakilerden hangisi kelam ilminde varlık meselesi içinde ele alınan konulardan biri değildir?

- A) Allah-Âlem ilişkisi
B) Akıl-Vahiy ilişkisi
C) Madde
D) İnsan

14. Aşağıdakilerden hangisi ahlaki hükümlere örnek oluşturmaz?

- A) Oruç tutmak
B) Hoşgörülü olmak
C) Tevazu göstermek
D) Saygılı davranmak

15. Aşağıdakilerden hangisi "delil" kelimesinin sözcük anlamlarından biri değildir?

- A) Mürşit B) Kılavuz
C) Talebe D) Rehber

16. Aşağıdakilerden hangisi havass-ı selimenin (sağlam duyular) işleyişi ile ilgili doğru bir ifadedir?

- A) Doğruyu yanlıştan, iyiyi kötüden ayırır eder.
B) Dış dünyadan verileri ararak akla aktarır.
C) Haber ve duyuların sağladığı verileri değerlendirip bilgiye dönüştürür.
D) Duyuların yanıma ihtimaline karşı duyu verilerinin sağlamasını yapar.

1. OTURUM

17. Tüm varlıkları madde ile açıklayan ve maddenin ötesinde, gözle görülmeyen bir manevî ögenin ya da ruhun varlığını inkâr eden akımın adı aşağıdakilerden hangisidir?

- A) Materyalizm B) Politeizm
C) Taoizm D) Deizm

18. Kur'an'da âleme ilişkin ayetlerde, onun bir düzen ve yasaya bağlı olarak işlediği belirtilir ve insanlardan bu yasalar üzerinde düşünmesi istenir.

Aşağıdaki ayetlerden hangisi bu metne örnek oluşturur?

- A) "Gerçekten biz, her şeyi bir ölçü ve dengede yarattık."
(Kamer suresi, 49. ayet)
- B) "O, yedi göğü tabaka tabaka yaratandır. Rahmân'ın yaratışında hiçbir uyumsuzluk göremezsin. Bir kere daha bak! Hiçbir çatlak ve düzensizlik görüyor musun?"
(Mülk suresi, 3. ayet)
- C) "Göklerin ve yerin yaratılışında, gece ile gündüzün birbiri ardınca gelip gidişinde selim akıl sahipleri için elbette ibretler vardır."
(Âl-i İmrân suresi, 190. ayet)
- D) "...Hak, Rabbinizdendir. Artık dileyen iman etsin, dileyen inkâr etsin. Biz zalimlere öyle bir ateş hazırladık ki, onun alevden duvarları kendilerini çepeçevre kuşatmıştır..."
(Kehf suresi, 29. ayet)

19. İslam dininin inanca ve davranışlara dair ilkelerini naslardan hareketle belirleyen ve akli yöntemlerle temellendirip destekleyen ilimdir.

Tanımı verilen bu ilim dalı aşağıdakilerden hangisidir?

- A) Kelam B) Tefsir
C) Hadis D) Fıkıh

20. Herhangi bir akıl yürütme veya delillendirmeye ihtiyaç duymadan, doğrudan doğruya zihinde oluşan bilginin adı aşağıdakilerden hangisidir?

- A) Nazarî B) İstidlâlî
C) Zarurî D) İktisabî

(825) OSMANLI TÜRKÇESİ – 1

1. - - - - sanatı denince akla öncelikle Kur'an-ı Kerim harfleri ile yazılmış güzel yazı sanatı gelir. Kur'an-ı Kerim'in bir araya toplanmasından sonra, İslam dininin bilime verdiği özel önemin etkisiyle çok sayıda kâtip yetişmiş; yazı da doğal olarak büyük aşamalar göstererek önemli bir sanat kolu olmuştur.

Bu parçada boş bırakılan yere aşağıdakilerden hangisi getirilmelidir?

- A) Hat B) Ebced
C) Rahle D) Tezhip

2. (I) 10. yüzyıldan 16. yüzyıla kadar devam eder. (II) Soldan sağa doğru yazılır. (III) Arapça, Farsça kelime ve tamlamalar bulunur. (IV) Kur'an alfabesini temel alır.

Bu parçada numaralanmış cümlelerin hangilerinde "Osmanlı Türkçesi" ile ilgili bilgi yanlışı vardır?

- A) I ve II. B) I ve III.
C) II ve IV. D) III ve IV.

3. Aşağıdaki harflerden hangisinin adı ayrıç içinde doğru verilmiştir?

- A) خ (cim) B) پ (be)
C) ل (lamelif) D) گ (gef)

4. Aşağıdakilerden hangisi "z" ortak sesini karşılayan harflerden değildir?

- A) ن B) ز C) ذ D) ظ

5. Aşağıdakilerden hangisi kendinden sonra gelen harflerle birleşir?

- A) و B) لا C) ا D) ئ

6. ۱۹۲۲ از میردن بورسہ یہ، خالدہ ادیب آدی وار

Bu bilgide adı geçen yazar aşağıdakilerden hangisidir?

- A) Hüseyin Cahit Yalçın
B) Hüseyin Rahmi Gürpınar
C) Halide Edip Adıvar
D) Halit Ziya Uşaklıgil

7. " ر ا ب ق ا د " harflerinin tümü kullanılarak aşağıdaki sözcüklerden hangisi yazılabilir?

- A) Yaprak B) Kırmızı
C) Bardak D) Yaklaşık

8.

	Noktalama İşareti	Günümüz Türkçesi	Osmanlı Türkçesi
I.	Virgöl	,	،
II.	Noktalı virgöl	;	؛
III.	Soru işareti	?	؟
IV.	Ünlem	!	!

Bu tabloda numaralanmış noktalama işaretlerinden hangisinin Osmanlı Türkçesindeki karşılığı yanlış gösterilmiştir?

- A) I. B) II. C) III. D) IV.

9. "He" okutucusu ile ilgili aşağıdakilerden hangisi söylenemez?

- A) İlk hecede kullanılmaz.
B) Kalın ve ince şekilleri vardır.
C) Kendinden sonraki harflerle birleşmez.
D) Kendinden önceki harfi "u" veya "ü" sesiyle okutur.

10. Aşağıdakilerden hangisi "çalışkanlığın faydası" ile ilgilidir?

- A) دینجینڭ توربه سی طولماز .
B) یازین باشی پیشه نڭ قیشین آشی پیشر .
C) دوه بوینوز آرارکن قولاقدن اولمش .
D) آزه قناعت ایتمه یین چوغي هیچ بولاماز .

11. Osmanlı Türkçesi alfabesindeki "غ" harfinin kelime ortasındaki yazılışı aşağıdakilerden hangisidir?

- A) ض B) ف C) غ D) ق

12. Aşağıdaki yargıların hangisinde bilgi yanlışı vardır?

- A) "ط" harfi, "t" ve "d" seslerini karışır.
B) "چ" ve "ژ" harfleri, Kur'an alfabesinde yoktur.
C) Elif harfi üzerindeki med işareti (Ā) elif harfini "i" sesiyle okutur.
D) "ن" harfi kendinden sonra gelen harflerle birleşir.

1. OTURUM

(931) SİYER – 1

13. “Ye” okutucusu aşağıdakilerin hangisinde diğerlerinden farklı bir sesi karşılamıştır?

- A) قيش B) ديل
C) ژيلت D) هيچ

14. Aşağıdaki sözcüklerin hangisinde okutucu kullanılmamıştır?

- A) درد B) تيلكي
C) خاووچ D) حادث

15.

	KELİME	OKUNUŞU
I.	باليق	balık
II.	يا پراق	toprak
III.	بولوط	bulut
IV.	كونش	güneş

Bu tabloda numaralanmış kelimelerden hangisinin okunuşu yanlış verilmiştir?

- A) I. B) II. C) III. D) IV.

16. Aşağıdakilerden hangisi bir meyve adıdır?

- A) كورك B) خسته لق
C) كيراز D) صاقساغان

17. “Âfât” sözcüğünün Osmanlı Türkçesiyle yazılışı aşağıdakilerin hangisinde doğru verilmiştir?

- A) اقاط B) آفات
C) عضات D) عفاق

18. Aşağıdakilerden hangisi Kur’an alfabesinde yer almaz?

- A) ا B) ق C) ك D) ش

19. “18 Mart 1915” tarihini aşağıdakilerden hangisi karşılar?

- A) ۱۹۱۵/۰۳/۱۸
B) ۱۹۱۵/۰۳/۲۴
C) ۱۹۲۶/۱۰/۱۸
D) ۱۹۱۳/۰۳/۰۳

20. Aşağıdaki kelimelerden hangisinin son hecesi açık değildir?

- A) دره ده B) باشقان
C) سبزه D) مسافه

1. “Andolsun ki Resulullah; sizin için, Allah’a ve ahiret gününe kavuşmayı umanlar ve Allah’ı çokça zikredenler için güzel bir örnektir.”
(Ahzâb suresi, 21. ayet)

Bu ayette altı çizili bölüm ile ifade edilen kavram aşağıdakilerden hangisidir?

- A) Ehl-i beyt
B) Üsve-i hasene
C) Ahsen-i takvim
D) Hâtemü’l enbiyâ

2. Meğâzî ile ilgili aşağıdaki bilgilerden hangisi yanlıştır?

- A) Siyer ilmine nispeten daha hususi anlamda kullanılır.
B) Savaş hukuku ve diplomatik ilişkilerin bilgisini içerir.
C) Hz. Peygamber’in gazve ve seriyelerini anlatan kitaplardır.
D) Hz. Peygamber döneminden günümüze kadar yapılan savaşları konu edinir.

3. Çok sayıda kadim inançların yaşandığı Arap Yarımadası’nda Yahudilik hem kuzey hem de güney Arabistan’a girmiş olmasına rağmen Araplar arasında pek yayılmamıştır.

Bu durumun sebebi Yahudiliğin aşağıdaki özelliklerinden hangisi ile açıklanabilir?

- A) Millî karakterli bir din olması
B) Tevhid inancına dayalı bir din olması
C) Arabistan’da görülen en eski dinlerden biri olması
D) Peygamber ve kutsal kitap gönderilmiş bir din olması

4. • Zerdüş’tün öğretileri ile oluşmuştur.
• Eski İran inanç ve geleneklerinin karışımıdır.
• Yönetici sınıf ve zenginlerin dini olarak tanınmıştır.

Hakkında bilgi verilen din aşağıdakilerden hangisidir?

- A) Putperestlik B) Mecusilik
C) Sabiilik D) Budistlik

5. Cahiliye dönemi müşrik inancına göre aşağıdakilerden hangisi putlara yapılan ibadetlerin amaçlarından biri değildir?

- A) Sıhhat kazanmak
B) Savaşlarda galip gelmek
C) Erkek evlat sahibi olmak
D) Kurtarıcının gelişini hızlandırmak

6. “İbrahim ne Yahudi idi, ne de Hristiyan. Fakat o, Allah’ı bir tanıyan, hakka yönelen bir Müslümandı. Allah’a ortak koşanlardan da değildi.”
(Âl-i İmrân suresi, 67. ayet)

Bu ayette altı çizili bölüm ile ifade edilen kavram aşağıdakilerden hangisidir?

- A) Havari B) Bâkiye
C) Hanif D) Bâide

7. • Yemen’de kurulan bir devlettir.
• Başkent Me’rib’de baraj inşa etmişlerdir.
• Medeniyet sahibi ilk Arabistanlılar olarak kabul edilirler.

Bu bilgiler aşağıdaki devletlerden hangisi ile ilgilidir?

- A) Sebeliler B) Sâsânîler
C) Gassânîler D) Nabâtîler

8. Aşağıdakilerden hangisi İslam öncesi toplum yapısını oluşturan sosyal sınıflardan biri değildir?

- A) Hürler B) Köleler
C) Mevali D) Talebeler

9. • Çölde konargöçer olarak hayat yaşayan iyi birer savaşçılardır.
• Kabile içerisinde dayanışma ve geleneğe bağlılık güçlüdür.
• Günlük geçimlerini takas ve yağma ile sağlarlar.

Bu bilgiler aşağıdaki kavramlardan hangisine aittir?

- A) Bedevî B) Hadarî
C) Mevali D) Medenî

10. Aşağıdakilerden hangisi haram aylardan biri değildir?

- A) Recep B) Zilkade
C) Zilhicce D) Ramazan

11. Kur’an-ı Kerim’de “ekin bitmeyen vadi” olarak nitelendirilen şehir aşağıdakilerden hangisidir?

- A) Taif B) Basra
C) Mekke D) Yesrib

1. OTURUM

12. • Önemli işleri görüşmek üzere Dâru'n-Nedve'yi kurmuştur.
• Kureyş kabilesini toplayarak Kâbe'nin etrafına yerleştirmiştir.
• Hacıların su ve yemek ihtiyacının karşılanması hizmetinde bulunmuştur.

Hakkında bilgi verilen kişi aşağıdakilerden hangisidir?

- A) Hz. İbrahim
B) Kusay bin Kilab
C) Abdülmuttalib
D) Amr bin Luhay

13. Yahudi kabilelerinden Benî Kurayza, Benî Kaynuka ve Benî Nadir'in kendileri için güvenli bölge olarak seçip yerleştiği şehir aşağıdakilerden hangisidir?

- A) Busra B) San'a
C) Yesrib D) Mekke

14. Hz. Peygamber'in "kendisinden sonra hiçbir peygamberin gelmeyeceği" anlamına gelen ismi aşağıdakilerden hangisidir?

- A) Mâhî B) Âkıb
C) Hâşir D) Ahmet

15. Hz. Peygamber kaç yıl sütannesinin yanında kalmıştır?

- A) 4 B) 5 C) 6 D) 8

16. Hz. Peygamber'in çok değerli deve sürüsüyle de olsa değişmeyeceğini söyleyerek daima övgü ile bahsettiği anlaşma aşağıdakilerden hangisidir?

- A) Hudeybiye Anlaşması
B) Medine Sözleşmesi
C) Hılfü'l-Fudûl
D) İ. Akabe Biati

17. Aşağıdakilerden hangisi Hz. Peygamber'in himayesinde kaldığı kişilerden biridir?

- A) Varaka bin Nevfel
B) Velid bin Muğire
C) Ebu Süfyan
D) Ebu Talib

18. Kureyşlilerin İslam ile mücadele etmek için yapmış olduğu toplantıda Nadr bin el-Hâris; "Muhammed, daha gençken aranızda en doğru sözlü ve en fazla güvendiğiniz kimse idi. Nihayet saçlarına ak düşüp olgunlaştığında size bu getirdiği ile gelince siz ona sihirbaz dediniz. Hayır, o sihirbaz değildir." demiştir.

Bu metinden Hz. Peygamber'in aşağıdaki sıfatlarından hangisine ulaşamaz?

- A) Fetanet B) Emanet
C) Tebliğ D) Sıdk

19. "Allah bana ondan daha hayırlısını vermemiştir. Herkes benim peygamberliğimi inkâr ederken o bana inandı. Herkes beni yalanlarken o beni tasdik etti. İnsanlar mallarını esirgerken o malıyla beni destekledi."

Hz. Peygamber bu sözleri aşağıdakilerden hangisi için söylemiştir?

- A) Hz. Ebu Bekir
B) Hz. Hatice
C) Hz. Fatıma
D) Hz. Osman

20. • Asıl adı Şeybe'dir.
• Mekke'nin liderlerinden biridir.
• Uzun zamandır kaybolan zemzem kuyusunu oğlu Hâris ile yeniden açmıştır.

Hakkında bilgi verilen kişi aşağıdakilerden hangisidir?

- A) Hâşim B) Zübeyr
C) Abdullah D) Abdülmuttalip

(974) SEÇMELİ GİRİŞİMCİLİK – 1

1. Başkalarının baktığı ama göremediği fırsatları görüp bu fırsatları iş fikrine dönüştürebilen kişiler girişimcilerdir.

Buna göre aşağıdakilerden hangisi girişimcilik ile ilgili temel kavramlardandır?

- A) Durağanlık
B) Gelenekçilik
C) Muhafazakârlık
D) Yenilikçilik

2. Yaratıcılığı geliştirmek için aşağıdakilerden hangisi yapılmalıdır?

- A) Alışılmışın dışına çıkmamak
B) Denenmemişi denemek
C) Olması gerekenle yetinmek
D) Risk almamak

3. Aşağıdakilerden hangisi yaratıcı kişilik özelliklerindedir?

- A) Yeni duygu ve düşüncelere kapalıdır.
B) Yeni fikirleri bir tehdit olarak algılar.
C) Sürekli merak içerisindedir.
D) Öz güveni azdır.

4. Liderlik, değişim ortamında değişime uymanın yanı sıra değişimi yaratmaktır. Bu nedenle liderlerin asıl görevi başında bulunduğu kuruluşun geleceğini şekillendirmek olmalıdır.

Buna göre aşağıdakilerden hangisi bir liderin başlıca özelliklerindedir?

- A) Değişimin öncüsüdür.
B) Sorgulamayandır.
C) Esnek davranmaz.
D) Pasif dinleyendir.

5. Aşağıdakilerden hangisi girişimcilerin iş hayatında karşılaşılabileceği zorluklardan değildir?

- A) Piyasada rekabetin yoğun olması
B) Ürün ve kalite geliştiriminin zorluğu
C) Üretim maliyetlerinin düşük olması
D) Kalifiye eleman yetersizliği

1. OTURUM

6. Aşağıdakilerden hangisi sosyal girişimcinin sahip olması gereken kişisel özelliklerdendir?

- A) Eksikliğini farkında olmama
- B) Başarılı olma isteğinin varlığı
- C) Bir plan dâhilinde çalışmaktan kaçınma
- D) Başkalarına güvenmeyip tek başına çalışma

7. Aşağıdakilerden hangisi üretimin en önemli unsurudur?

- A) Sermaye
- B) Girişimci
- C) Doğa
- D) Emek

8. Aşağıdakilerden hangisi girişimcileri kendi işini kurma kararına yöneltten motivasyon kaynaklarındandır?

- A) Kendi kendinin patronu olma isteği
- B) Başkalarından emir alarak çalışma isteği
- C) Patrona bağımlı iş ortamında çalışma isteği
- D) İş kurma dışında hayatını kazanma seçeneklerinin sınırsız olması

9. Tarımsal alanların elverişsizliği veya sınırlılığı, bireylerin tarım dışı iktisadi faaliyetlere yönelmelerine neden olmaktadır. Örneğin, sahil şeridinde tarım alanlarının sınırlı olmasının alternatifleri kıyı balıkçılığıdır.

Bu örneğe göre girişimciyi kıyı balıkçılığı yapmaya teşvik eden faktör aşağıdakilerden hangisidir?

- A) Aile
- B) Eğitim
- C) Coğrafya
- D) Siyaset

10. Aşağıdakilerden hangisi girişimciliği teşvik eden unsurlardan değildir?

- A) Faizsiz ya da düşük faizli kredi imkânının varlığı
- B) Rekabet ortamının yoğun olması
- C) Girişimcilik eğitimi programlarının düzenlenmesi
- D) Yabancı sermayeyi teşvik edici düzenlemelerin yapılması

11. Güçlü ve zayıf yanlarını bilen, uluslararası rekabet sistemini doğru algılayan, rakiplerin stratejilerini yakından gözleyen, insan ve sermaye kaynaklarını doğru yönlendiren toplumlar zenginleşir.

Paragrafta bahsedilen durumun gerçekleşmesi için aşağıdakilerden hangisi gereklidir?

- A) Geleneksel üretim yöntemlerini kullanmak
- B) Kaynak israfında bulunmak
- C) Kişisel refah düzeyini azaltmak
- D) Girişimciliğe önem vermek

12. Aşağıdakilerin hangisindeki artış işsiz sayısını azaltarak toplumun refahını artırır?

- A) Girişimci sayısındaki
- B) Niteliksiz insan sayısındaki
- C) Kapanan şirket sayısındaki
- D) Kredi faiz oranlarındaki

13. Aşağıdakilerden hangisi kendi işini kurmanın avantajlarındandır?

- A) İş stresinin artması
- B) Bireyin yalnızlığı
- C) Bağımsız çalışmak
- D) Risklerin artması

14. Aşağıdakilerden hangisi insan ihtiyaçlarını karşılamak üzere ekonomik mal ve hizmet üretiminin gerçekleştirilebilmesi için üretim faktörlerini bir araya getirendir?

- A) Kıtık
- B) Doğa
- C) Girişimci
- D) Tüketici

15. Girişimci için aşağıdakilerden hangisi söylenemez?

- A) İş fikirleri üretendir.
- B) Yeni pazarlara ulaşandır.
- C) Olasılıklardan imkan yaratandır.
- D) Oluşan problemlerden kaçandır.

16. Vizyon, bir kişinin kendine özgü görüş açısını ve derinliğini ifade eder. Vizyon sahibi olmak amaçlara ulaşabilmek için motive edici bir güçtür.

Buna göre aşağıdakilerden hangisi vizyon oluşturabilmek için gereken kişisel özelliklerden değildir?

- A) Yaratıcılık
- B) Kıskançlık
- C) Yardımseverlik
- D) Paylaşımçı olmak

17. Girişimci, insani ilişkilerde başarılı olmak için aşağıdakilerden hangisini yapmalıdır?

- A) Çalışanlarının sosyal olanaklarını kesmelidir.
- B) Konuşurken yargılayıcı bir dil kullanmalıdır.
- C) Fikir ve önerilere kapalı olmalıdır.
- D) İnsanlara sevgi ile yaklaşmalıdır.

18. Aşağıdakilerden hangisi girişimci olma isteği olan bireylerin dikkat etmesi gereken özelliklerdendir?

- A) Kısa, orta ve uzun vadede ölçülebilen hedeflere sahip olmak
- B) Kötü ihtimalleri gözardı etmek
- C) Hayali tahminlerden stratejiler geliştirmek
- D) Piyasa koşullarını dikkate almamak

19. Otomotiv üzerine çalışmalar yaparak başarılı olan girişimci aşağıdakilerden hangisidir?

- A) Sakıp Sabancı
- B) Louis Renault
- C) Paul Allen
- D) Bill Gates

20. Aşağıdakilerden hangisi girişimcilerin başarısız olmasına neden olur?

- A) Hatalı iş tercihi yapmak
- B) Hedef belirlemek
- C) Dengeli büyümek
- D) Çok çalışmak

1. OTURUM

(999) MATEMATİK – 2

1. $\frac{x}{y} = \frac{3}{4}$ olduğuna göre $\frac{2x+y}{x+3y}$ ifadesinin değeri aşağıdakilerden hangisidir?

A) $\frac{1}{5}$ B) $\frac{1}{3}$ C) $\frac{2}{5}$ D) $\frac{2}{3}$

2. 60 öğrencinin bulunduğu bir kampta, içerisinde yiyecek bulunan paketler öğrencilerden her birine günde bir tane dağıtıldığında 30 günde bitecektir.

20 gün sonra bu kamptan 10 öğrenci ayrıldığında aynı dağıtım şekli ile kalan paketler kalan öğrencilere kaç gün daha yeter?

A) 12 B) 15 C) 20 D) 24

3. Ahmet Bey maaşının $\frac{1}{3}$ 'ünü harcadıktan sonra kalanın $\frac{1}{2}$ 'ini harcadığında geriye 900 lirası kalmıştır.

Buna göre Ahmet Bey'in maaşı kaç liradır?

A) 3600 B) 3200
C) 2700 D) 2500

4. Aralarında 6 yaş bulunan iki kardeşten büyük kardeşin 10 yıl sonraki yaşı, küçük kardeşin 4 yıl önceki yaşının 2 katı olacaktır.

Buna göre büyük kardeşin bugünkü yaşı kaçtır?

A) 18 B) 24 C) 30 D) 36

5. Tuz oranı %40 olan 75 litre tuzlu su ile tuz oranı %20 olan 25 litre tuzlu su karıştırıldığında oluşan yeni karışımın tuz oranı yüzde kaç olur?

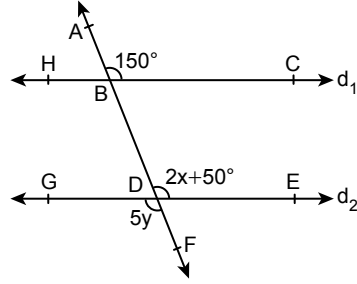
A) 20 B) 25 C) 30 D) 35

6. Bir araç A kentinden B kentine 80 km/sa hızla gidip 120 km/sa hızla dönmüştür.

Bu gidiş dönüşte aracın ortalama hızı saatte kaç kilometredir?

A) 90 B) 96 C) 100 D) 110

7.



Şekilde A, B, D, F noktaları doğrusal, $d_1 \parallel d_2$ ve $m(\widehat{ABC}) = 150^\circ$, $m(\widehat{BDE}) = 2x + 50^\circ$, $m(\widehat{GDF}) = 5y$ 'dir.

Buna göre $x + y$ kaç derecedir?

A) 80 B) 100 C) 130 D) 150

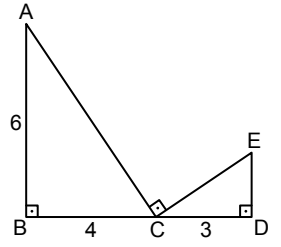
8. Bir ABC üçgeninde

$|AB| = 3$ cm, $|AC| = 9$ cm ve $|BC| = (x + 2)$ cm'dir.

Buna göre x kaç farklı tam sayı değeri alabilir?

A) 4 B) 5 C) 6 D) 7

9.

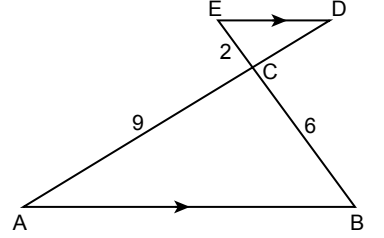


Şekilde ABC ve CDE birer üçgen, $m(\widehat{ABD}) = m(\widehat{ACE}) = m(\widehat{BDE}) = 90^\circ$ ve $|AB| = 6$ cm, $|BC| = 4$ cm, $|CD| = 3$ cm'dir.

Buna göre $|DE|$ kaç santimetredir?

A) 6 B) 4 C) 3 D) 2

10.

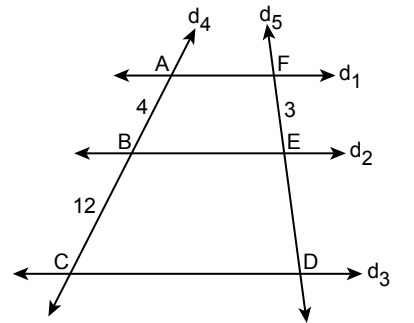


Şekildeki ABC ve DEC üçgenlerinde $[ED] \parallel [AB]$ ve $|EC| = 2$ cm, $|CB| = 6$ cm, $|AC| = 9$ cm'dir.

Buna göre $|CD|$ kaç santimetredir?

A) 3 B) 4 C) 6 D) 9

11.

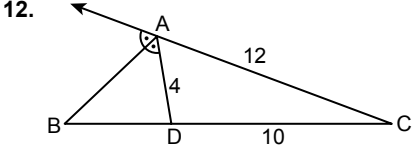


Şekilde d_1, d_2, d_3, d_4 ve d_5 birer doğru, $d_1 \parallel d_2 \parallel d_3$ ve $|AB| = 4$ cm, $|BC| = 12$ cm, $|FE| = 3$ cm'dir.

Buna göre $|ED|$ kaç santimetredir?

A) 4 B) 6 C) 9 D) 12

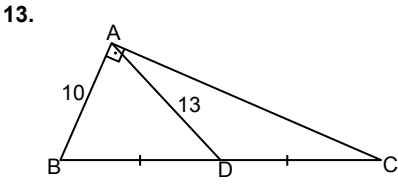
1. OTURUM



Şekilde ADC üçgen, $[AB]$ dış açıortay, $D \in [BC]$ ve $|AD| = 4$ cm, $|DC| = 10$ cm, $|AC| = 12$ cm'dir.

Buna göre $|BC|$ kaç santimetredir?

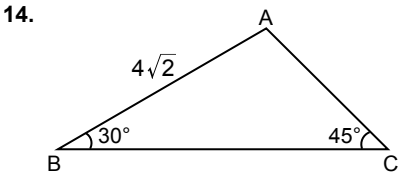
- A) 10 B) 15 C) 20 D) 25



Şekildeki ABC üçgeninde $[BA] \perp [AC]$, $[AD]$ kenarortay ve $|AB| = 10$ cm, $|AD| = 13$ cm'dir.

Buna göre $|AC|$ kaç santimetredir?

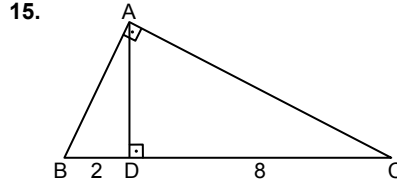
- A) 10 B) 12 C) 20 D) 24



Şekildeki ABC üçgeninde $m(\widehat{ABC}) = 30^\circ$, $m(\widehat{BCA}) = 45^\circ$ ve $|AB| = 4\sqrt{2}$ cm'dir.

Buna göre $|AC|$ kaç santimetredir?

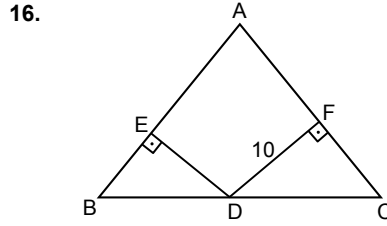
- A) 8 B) $4\sqrt{2}$
C) 4 D) $3\sqrt{2}$



Şekildeki ABC üçgeninde $[BA] \perp [AC]$, $[AD] \perp [BC]$ ve $|BD| = 2$ cm, $|DC| = 8$ cm'dir.

Buna göre $|AC|$ kaç santimetredir?

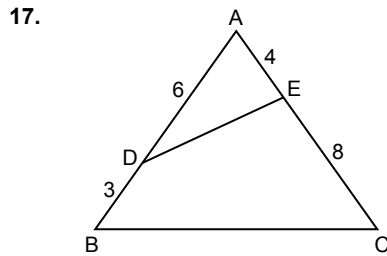
- A) 2 B) $2\sqrt{5}$
C) 4 D) $4\sqrt{5}$



Şekildeki ABC üçgeninde $D \in [BC]$, $[DE] \perp [AB]$, $[DF] \perp [AC]$, $|AB| = |AC| = 20$ cm, $|DF| = 10$ cm ve $A(\widehat{ABC}) = 140$ cm² dir.

Buna göre $|ED|$ kaç santimetredir?

- A) 4 B) 5 C) 7 D) 10



Şekildeki ADE ve ABC üçgenlerinde $D \in [AB]$, $E \in [AC]$ ve $|AD| = 6$ cm, $|DB| = 3$ cm, $|CE| = 8$ cm, $|EA| = 4$ cm'dir.

Buna göre $\frac{A(\widehat{ADE})}{A(\widehat{ABC})}$ kaçtır?

- A) $\frac{2}{9}$ B) $\frac{1}{6}$ C) $\frac{1}{9}$ D) $\frac{1}{18}$

18. 7, 3, 4, 10, 5, 15 sayılarından oluşan veri grubunun medyanı (ortanca) kaçtır?

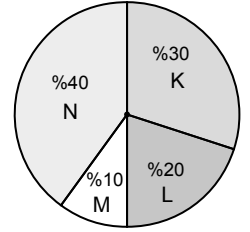
- A) 9 B) 8 C) 7 D) 6

19. Yaş ortalaması 30 olan bir gruptan yaş ortalaması 26 olan iki kişi ayrıldığında grubun yaş ortalaması 31 oluyor.

Buna göre başlangıçta grupta bulunan kişi sayısı kaçtır?

- A) 10 B) 21 C) 32 D) 36

20.



Şekildeki daire grafiği bir mağazanın K, L, M, N ürünlerinden elde ettiği toplam kârın, bu dört ürüne göre dağılımını göstermektedir.

Grafiğe göre aşağıdakilerden hangisi yanlıştır?

- A) K ürününe ait merkez açının ölçüsü 108° dir.
B) L ürününe ait merkez açının ölçüsü 90° dir.
C) En az kâr M ürününden elde edilmiştir.
D) En fazla kâr N ürününden elde edilmiştir.

**TEST BİTTİ.
CEVAPLARINIZI KONTROL EDİNİZ.**

CEVAP KÂĞIDI VE SORU KİTAPÇIĞI İLE İLGİLİ AÇIKLAMALAR

1. Cevap kâğıdınızdaki bilgilerin doğruluğunu kontrol ediniz ve cevap kâğıdınızı mürekkepli kalemle imzalayınız.
2. Cevap kâğıdı üzerinde kodlamalarınızı siyah kurşun kalemle yapınız.
3. Değiştirmek istediğiniz bir cevabı, yumuşak silgiyle cevap kâğıdını örselemeden temizce siliniz ve yeni cevabınızı kodlayınız.
4. Soru kitapçığının sayfalarını görevlilerin uyarıları doğrultusunda kontrol ediniz, baskı hatası var ise değiştirilmesini sağlayınız.
5. Soruların çözümü için size ayrıca boş kâğıt verilmeyecektir. Soru kitapçığının içindeki boş alanları soru çözümleri için kullanabilirsiniz.
6. Her sorunun dört seçeneğinden sadece biri doğrudur. Doğru seçeneği, cevap kâğıdınızın ilgili sütununa soru numarasını dikkate alarak yuvarlağın dışına taşımadan kodlayınız. Soru kitapçığı üzerinde yapılan cevaplandırmalar dikkate alınmayacaktır.
7. Cevaplamaya istediğiniz dersin sorusundan başlayabilirsiniz. Cevabını bilmediğiniz sorular üzerinde fazla zaman kaybetmeden diğer sorulara geçiniz. Zamanınız kalırsa bu sorulara daha sonra dönebilirsiniz.
8. Yanlış cevaplarınız dikkate alınmadan sadece doğru cevaplarınız üzerinden puanlama yapılacaktır.
9. Soruları ve sorulara verdiğiniz cevapları, yanınızda götürmek amacıyla kaydetmeyiniz; hiçbir şekilde dışarı çıkarmayınız.
10. Sınav bitiminde soru kitapçığı ve cevap kâğıdını salon görevlilerine teslim ediniz.
11. Aday tarafından cevap kâğıdına yazılması veya işaretlenmesi gereken bilgilerde eksiklik ya da yanlışlık olması durumunda sorumluluk adaya ait olacaktır.

SALON GÖREVLİLERİNCE SINAV BAŞLAMADAN ÖNCE ADAYLARA YAPILACAK SON UYARILAR

- Soracağınız bir şey varsa şimdi sorunuz, sınav başladıktan sonra sorularınıza cevap verilmeyecektir.
- Başlama zilini bekleyiniz.

Hepinize başarılar dileriz.

(Salon başkanı başlama ve bitiş saatini tahtaya yazacaktır.)

Bu kitapçığın her hakkı saklıdır. Hangi amaçla olursa olsun, kitapçığın tamamının veya bir kısmının Millî Eğitim Bakanlığı Ölçme, Değerlendirme ve Sınav Hizmetleri Genel Müdürlüğü'nün yazılı izni olmadan kopya edilmesi, fotoğraflarının çekilmesi, bilgisayar ortamına alınması, herhangi bir yolla çoğaltılması, yayımlanması veya başka bir amaçla kullanılması yasaktır. Bu yasağa uymayanlar, doğabilecek cezai sorumluluğu ve kitapçığın hazırlanmasındaki mali külfeti peşinen kabullenmiş sayılır.

07 ARALIK 2019 TARİHİNDE YAPILAN AÇIK ÖĞRETİM LİSESİ / MESLEKİ AÇIK ÖĞRETİM LİSESİ /
AÇIK ÖĞRETİM İMAM HATİP LİSESİ
2019-2020 ÖĞRETİM YILI 1. DÖNEM SINAVI 1. OTURUM T KİTAPÇIĞI CEVAP ANAHTARI

(111) DİN KÜL. AHL. BİL. – 1

1. B
2. D
3. C
4. B
5. D
6. A
7. B
8. C
9. D
10. B
11. A
12. B
13. A
14. D
15. B
16. D
17. A
18. C
19. A
20. C

(115) DİN KÜL. AHL. BİL. – 5

1. A
2. C
3. D
4. B
5. D
6. C
7. A
8. D
9. C
10. B
11. C
12. B
13. D
14. A
15. D
16. C
17. A
18. B
19. A
20. D

(125) FELSEFE – 3

1. C
2. D
3. A
4. C
5. D
6. C
7. D
8. A
9. C
10. B
11. D
12. B
13. D
14. B
15. A
16. C
17. B
18. D
19. C
20. A

(136) SEÇMELİ TARİH – 2

1. C
2. D
3. A
4. A
5. D
6. B
7. C
8. A
9. B
10. B
11. A
12. D
13. C
14. A
15. D
16. B
17. C
18. B
19. A
20. D

(112) DİN KÜL. AHL. BİL. – 2

1. D
2. A
3. C
4. A
5. D
6. B
7. D
8. C
9. B
10. A
11. B
12. D
13. B
14. A
15. B
16. C
17. A
18. C
19. B
20. A

(121) FELSEFE – 1

1. B
2. C
3. A
4. C
5. B
6. A
7. B
8. D
9. B
10. C
11. D
12. A
13. C
14. B
15. D
16. A
17. A
18. D
19. C
20. D

(132) TARİH – 2

1. C
2. A
3. D
4. B
5. A
6. D
7. C
8. B
9. A
10. A
11. C
12. D
13. B
14. D
15. A
16. C
17. C
18. B
19. A
20. D

(151) COĞRAFYA – 1

1. A
2. D
3. D
4. B
5. C
6. B
7. D
8. B
9. B
10. A
11. A
12. B
13. D
14. C
15. B
16. A
17. D
18. C
19. A
20. C

07 ARALIK 2019 TARİHİNDE YAPILAN AÇIK ÖĞRETİM LİSESİ / MESLEKİ AÇIK ÖĞRETİM LİSESİ /
AÇIK ÖĞRETİM İMAM HATİP LİSESİ
2019-2020 ÖĞRETİM YILI 1. DÖNEM SINAVI 1. OTURUM T KİTAPÇIĞI CEVAP ANAHTARI

(155) SEÇMELİ COĞRAFYA – 1

1. B
2. C
3. D
4. D
5. A
6. B
7. C
8. D
9. A
10. D
11. C
12. A
13. B
14. D
15. C
16. D
17. A
18. B
19. C
20. A

(181) İNGİLİZCE – 1

1. A
2. B
3. C
4. C
5. D
6. B
7. A
8. C
9. D
10. A
11. D
12. C
13. A
14. C
15. D
16. A
17. B
18. A
19. D
20. B

(181) FRANSIZCA – 1

1. B
2. A
3. D
4. A
5. C
6. D
7. A
8. B
9. C
10. A
11. D
12. B
13. C
14. B
15. A
16. C
17. D
18. C
19. D
20. B

(244) İNGİLİZCE – 5

1. B
2. C
3. D
4. A
5. A
6. D
7. B
8. A
9. C
10. A
11. B
12. D
13. C
14. A
15. D
16. B
17. D
18. C
19. C
20. D

(157) SEÇMELİ COĞRAFYA – 3

1. B
2. C
3. A
4. A
5. D
6. B
7. C
8. D
9. B
10. A
11. B
12. D
13. C
14. D
15. C
16. A
17. B
18. D
19. A
20. C

(181) ALMANCA – 1

1. B
2. A
3. D
4. A
5. C
6. D
7. B
8. A
9. C
10. B
11. D
12. A
13. D
14. C
15. D
16. B
17. B
18. A
19. C
20. C

(222) SAĞLIK BİLGİSİ VE
TRAFİK KÜLTÜRÜ – 2

1. B
2. D
3. A
4. D
5. C
6. B
7. C
8. A
9. C
10. D
11. B
12. A
13. D
14. B
15. D
16. C
17. D
18. A
19. A
20. B

(244) ALMANCA – 5

1. B
2. A
3. D
4. B
5. A
6. C
7. D
8. B
9. D
10. A
11. C
12. B
13. A
14. D
15. C
16. B
17. A
18. B
19. C
20. C

07 ARALIK 2019 TARİHİNDE YAPILAN AÇIK ÖĞRETİM LİSESİ / MESLEKİ AÇIK ÖĞRETİM LİSESİ /
AÇIK ÖĞRETİM İMAM HATİP LİSESİ
2019-2020 ÖĞRETİM YILI 1. DÖNEM SINAVI 1. OTURUM T KİTAPÇIĞI CEVAP ANAHTARI

(244) FRANSIZCA – 5

1. B
2. A
3. D
4. C
5. A
6. A
7. B
8. C
9. D
10. B
11. C
12. A
13. B
14. C
15. A
16. C
17. D
18. D
19. D
20. B

(425) SEÇMELİ FİZİK – 1

1. C
2. D
3. B
4. A
5. C
6. B
7. A
8. B
9. D
10. C
11. D
12. B
13. A
14. D
15. C
16. D
17. C
18. B
19. A
20. A

(436) SEÇMELİ KİMYA – 2

1. B
2. A
3. D
4. B
5. C
6. B
7. C
8. A
9. C
10. A
11. B
12. D
13. A
14. A
15. B
16. C
17. D
18. A
19. D
20. D

(443) BİYOLOJİ – 3

1. A
2. B
3. D
4. D
5. A
6. C
7. B
8. A
9. D
10. A
11. B
12. B
13. C
14. C
15. A
16. D
17. C
18. C
19. D
20. B

(421) FİZİK – 1

1. C
2. A
3. A
4. B
5. A
6. B
7. A
8. D
9. D
10. C
11. C
12. D
13. B
14. D
15. C
16. C
17. A
18. C
19. B
20. D

(432) KİMYA – 2

1. A
2. C
3. B
4. D
5. D
6. C
7. B
8. A
9. C
10. A
11. B
12. C
13. C
14. A
15. B
16. D
17. A
18. A
19. D
20. A

(441) BİYOLOJİ – 1

1. C
2. D
3. A
4. B
5. A
6. D
7. D
8. A
9. C
10. B
11. D
12. D
13. A
14. B
15. C
16. C
17. A
18. C
19. B
20. B

(446) SEÇMELİ BİYOLOJİ – 2

1. A
2. D
3. B
4. A
5. C
6. D
7. A
8. B
9. C
10. A
11. D
12. D
13. B
14. D
15. B
16. D
17. A
18. C
19. B
20. C

07 ARALIK 2019 TARİHİNDE YAPILAN AÇIK ÖĞRETİM LİSESİ / MESLEKİ AÇIK ÖĞRETİM LİSESİ /
AÇIK ÖĞRETİM İMAM HATİP LİSESİ
2019-2020 ÖĞRETİM YILI 1. DÖNEM SINAVI 1. OTURUM T KİTAPÇIĞI CEVAP ANAHTARI

(461) SEÇMELİ EKONOMİ – 1

1. D
2. A
3. C
4. C
5. B
6. A
7. B
8. D
9. D
10. C
11. A
12. B
13. C
14. B
15. D
16. A
17. C
18. A
19. B
20. D

(477) SEÇMELİ İŞLETME – 2

1. A
2. D
3. B
4. C
5. B
6. A
7. C
8. D
9. B
10. A
11. C
12. C
13. D
14. B
15. A
16. D
17. B
18. C
19. A
20. D

(502) İNGİLİZCE – 8

1. D
2. B
3. D
4. A
5. B
6. C
7. D
8. A
9. D
10. B
11. C
12. A
13. C
14. B
15. D
16. D
17. B
18. A
19. C
20. A

(502) FRANSIZCA – 8

1. B
2. A
3. D
4. C
5. A
6. B
7. C
8. D
9. A
10. B
11. C
12. D
13. A
14. B
15. B
16. A
17. C
18. C
19. D
20. D

(465) TEMEL DİNİ BİL.- 1

1. C
2. B
3. D
4. A
5. B
6. A
7. C
8. A
9. C
10. D
11. B
12. A
13. B
14. D
15. C
16. D
17. B
18. A
19. B
20. C

(479) SEÇMELİ MANTIK – 2

1. A
2. D
3. B
4. C
5. D
6. C
7. B
8. A
9. B
10. D
11. C
12. A
13. B
14. B
15. D
16. A
17. C
18. B
19. D
20. A

(502) ALMANCA – 8

1. A
2. B
3. D
4. A
5. B
6. A
7. C
8. D
9. A
10. B
11. D
12. A
13. C
14. C
15. D
16. C
17. D
18. B
19. B
20. C

(511) FIKİH – 1

1. B
2. C
3. D
4. A
5. B
6. C
7. A
8. B
9. D
10. A
11. D
12. B
13. C
14. D
15. B
16. C
17. D
18. C
19. D
20. A

07 ARALIK 2019 TARİHİNDE YAPILAN AÇIK ÖĞRETİM LİSESİ / MESLEKİ AÇIK ÖĞRETİM LİSESİ /
AÇIK ÖĞRETİM İMAM HATİP LİSESİ
2019-2020 ÖĞRETİM YILI 1. DÖNEM SINAVI 1. OTURUM T KİTAPÇIĞI CEVAP ANAHTARI

(532) SEÇMELİ
PEYGAMBERİMİZİN HAYATI – 2

1. A
2. B
3. C
4. D
5. C
6. D
7. A
8. C
9. D
10. A
11. B
12. C
13. B
14. D
15. C
16. D
17. A
18. B
19. A
20. D

(547) TÜRK DİLİ VE
EDEBİYATI – 7

1. D
2. A
3. C
4. D
5. C
6. B
7. C
8. B
9. B
10. D
11. A
12. B
13. B
14. D
15. A
16. B
17. D
18. C
19. A
20. B

(609) SEÇMELİ MATEMATİK – 2

1. A
2. D
3. B
4. B
5. C
6. D
7. C
8. C
9. B
10. A
11. D
12. D
13. C
14. B
15. A
16. C
17. A
18. B
19. B
20. D

(621) SEÇMELİ TÜRK DİLİ VE
EDEBİYATI – 3

1. D
2. B
3. C
4. A
5. D
6. A
7. D
8. C
9. B
10. B
11. C
12. A
13. B
14. A
15. C
16. D
17. B
18. A
19. A
20. D

(544) TÜRK DİLİ VE
EDEBİYATI – 4

1. D
2. B
3. B
4. C
5. A
6. A
7. C
8. A
9. D
10. A
11. D
12. A
13. B
14. C
15. D
16. C
17. C
18. B
19. A
20. A

(548) TÜRK DİLİ VE
EDEBİYATI – 8

1. A
2. D
3. A
4. B
5. B
6. D
7. C
8. A
9. A
10. D
11. B
12. C
13. B
14. D
15. C
16. A
17. A
18. B
19. D
20. C

(611) DİNLER TARİHİ – 1

1. A
2. D
3. C
4. D
5. A
6. D
7. A
8. B
9. A
10. C
11. D
12. B
13. D
14. C
15. A
16. B
17. C
18. B
19. C
20. D

(622) SEÇMELİ TÜRK DİLİ VE
EDEBİYATI – 4

1. A
2. D
3. B
4. D
5. D
6. A
7. C
8. B
9. C
10. B
11. D
12. B
13. B
14. C
15. A
16. B
17. D
18. B
19. A
20. C

07 ARALIK 2019 TARİHİNDE YAPILAN AÇIK ÖĞRETİM LİSESİ / MESLEKİ AÇIK ÖĞRETİM LİSESİ /
AÇIK ÖĞRETİM İMAM HATİP LİSESİ
2019-2020 ÖĞRETİM YILI 1. DÖNEM SINAVI 1. OTURUM T KİTAPÇIĞI CEVAP ANAHTARI

(713) İSLAM KÜLTÜR VE MEDENİYETİ – 1	(819) KELAM – 1	(931) SİYER – 1	(999) MATEMATİK – 2
1. A 2. D 3. C 4. A 5. B 6. D 7. C 8. B 9. D 10. C 11. A 12. D 13. B 14. D 15. A 16. C 17. A 18. B 19. C 20. B	1. C 2. D 3. C 4. B 5. A 6. B 7. A 8. C 9. D 10. C 11. B 12. D 13. B 14. A 15. C 16. B 17. A 18. D 19. A 20. C	1. B 2. D 3. A 4. B 5. D 6. C 7. A 8. D 9. A 10. D 11. C 12. B 13. C 14. B 15. A 16. C 17. D 18. A 19. B 20. D	1. D 2. A 3. C 4. C 5. D 6. B 7. A 8. B 9. D 10. A 11. C 12. B 13. D 14. C 15. D 16. A 17. A 18. D 19. A 20. B
(817) AKAIĐ – 1	(825) OSMANLI TÜRKÇESİ – 1	(974) SEÇMELİ GİRİŞİMCİLİK – 1	
1. D 2. A 3. C 4. D 5. D 6. B 7. C 8. B 9. C 10. A 11. C 12. D 13. B 14. A 15. B 16. C 17. A 18. D 19. A 20. D	1. A 2. A 3. D 4. A 5. D 6. C 7. C 8. D 9. D 10. B 11. C 12. C 13. A 14. A 15. B 16. C 17. B 18. A 19. A 20. B	1. D 2. B 3. C 4. A 5. C 6. B 7. D 8. A 9. C 10. B 11. D 12. A 13. C 14. C 15. D 16. B 17. D 18. A 19. B 20. A	