

T.C.
MİLLÎ EĞİTİM BAKANLIĞI
ÖLÇME, DEĞERLENDİRME VE
SINAV HİZMETLERİ GENEL MÜDÜRLÜĞÜ

AÇIK ÖĞRETİM LİSESİ / MESLEKİ AÇIK ÖĞRETİM LİSESİ /
AÇIK ÖĞRETİM İMAM HATİP LİSESİ
2023 - 2024 ÖĞRETİM YILI
2. DÖNEM SINAVI

1.
OTURUM


16 MART 2024 Saat: 10.00

DERS KODU VE ADI	SAYFA	DERS KODU VE ADI	SAYFA	DERS KODU VE ADI	SAYFA
(111) DİN KÜL. AHL. BİL. - 1	3	(244) FRANZIZCA - 5	17	(537) SEÇMELİ	
(112) DİN KÜL. AHL. BİL. - 2	4	(421) FİZİK - 1	18	PEYGAMBERİMİZİN HAY. - 7	32
(115) DİN KÜL. AHL. BİL. - 5	4	(425) SEÇMELİ FİZİK - 1	19	(544) TÜRK DİLİ VE EDEBİYATI - 4	33
(121) FELSEFE - 1	5	(432) KİMYA - 2	20	(547) TÜRK DİLİ VE EDEBİYATI - 7	34
(125) FELSEFE - 3	7	(436) SEÇMELİ KİMYA - 2	21	(548) TÜRK DİLİ VE EDEBİYATI - 8	35
(132) TARİH - 2	8	(441) BİYOLOJİ - 1	23	(609) SEÇMELİ MATEMATİK - 2	37
(136) SEÇMELİ TARİH - 2	8	(443) BİYOLOJİ - 3	23	(611) DİNLER TARİHİ - 1	38
(151) COĞRAFYA - 1	9	(446) SEÇMELİ BİYOLOJİ - 2	24	(621) SEÇ. TÜRK DİLİ VE	
(155) SEÇMELİ COĞRAFYA - 1	10	(465) TEMEL DİNİ BİL. - 1	25	EDEBİYATI - 3	39
(157) SEÇMELİ COĞRAFYA - 3	11	(479) SEÇMELİ MANTIK - 2	26	(622) SEÇ. TÜRK DİLİ VE	
(181) İNGİLİZCE - 1	12	(502) İNGİLİZCE - 8	26	EDEBİYATI - 4	40
(181) ALMANCA - 1	12	(502) ALMANCA - 8	27	(713) İSLAM KÜLTÜR VE	
(181) FRANZIZCA - 1	13	(502) FRANZIZCA - 8	28	MEDENİYETİ - 1	41
(195) SEÇMELİ		(511) FİKİH - 1	29	(817) AKAİD - 1	42
ORTAK TÜRK TARİHİ - 1	14	(532) SEÇMELİ		(819) KELAM - 1	43
(222) SAĞLIK BİLGİSİ VE		PEYGAMBERİMİZİN HAY. - 2	30	(825) OSMANLI TÜRKÇESİ - 1	44
TRAFİK KÜLTÜRÜ - 2	15	(535) SEÇMELİ		(931) SİYER - 1	45
(244) İNGİLİZCE - 5	16	PEYGAMBERİMİZİN HAY. - 5	31	(974) SEÇMELİ GİRİŞİMCİLİK - 1	46
(244) ALMANCA - 5	17			(999) MATEMATİK - 2	46

ADAYLARIN DİKKATİNE!

- Her ders için 11 soru bulunmaktadır. Bu oturumda **100** dakikalık cevaplama süreniz vardır. Sınavın ilk **30** dakikası tamamlanmadan ve sınav bitimine **15** dakika kala salon dışına çıkmayınız.
- Kullanımı doktor raporu ile belirlenen hasta veya engellilere ait cihazlar ve ilaçlar, anahtarlıksız basit anahtar, ulaşım kartları, para, alyans, şeffaf pet şişe içerisinde bandajlı çıkarılmış su ve şeffaf numaralı gözlük hariç; her türlü kesici ve delici alet, ateşli silah, çanta, cüzdan, cep telefonu, her türlü saat, anahtarlık, elektronik anahtar, kablosuz iletişim sağlayan cihaz, kulaklık, kolye, küpe, bilezik, yüzük, broş ve diğer takılar, her türlü plastik, metal ve cam eşya, banka kredi kartları, her türlü elektronik ve mekanik cihaz, her türlü müsvedde kâğıt, defter, ders notu, kitap, sözlük, dergi, gazete ve benzeri yayınlar, cetvel, pergel, açılöçer ve benzeri araçlar, yiyecek, içecek ve diğer tüketim maddeleri yanınızda bulundurmuyunuz. Bu araçları/maddeleri yanınızda bulundurmanız ve kopya çekmeye teşebbüs etmeniz hâlinde sınavınız geçersiz sayılacaktır.
- Başvuru şartlarını taşımadığınız hâlde sınava girmeniz, kopya çekmeniz, başka adayın sınav evrakını kullanmanız ve geçerli kimlik belgenizi ibraz edemediğiniz durumlarda sınavınız geçersiz sayılacaktır.
- Sınavın değerlendirilmesi aşamasında, bilgisayar ortamında yapılan kopya analizinde sistemin ikili ve/veya toplu kopya tespiti hâlinde sınavınız geçersiz sayılacaktır.
- Adaylar, sınav kurallarına ve salon görevlilerinin tüm uyarılarına uymak zorundadır. Kurallara ve uyarılara uymayan adayların sınavları geçersiz sayılacaktır.**
- Sınav başladıktan sonra adayların salon görevlileri ve birbirleri ile konuşmaları; kalem, silgi vb. şeyleri istemeleri yasaktır.
- Adaylar sınav süresince, sınav giriş belgesi ile geçerli kimlik belgelerinden birini masalarının üzerinde bulundurmamak zorundadır.
- Sınav evraklarını teslim etmeyen, soru kitapçıklarının sayfalarından bir kısmını eksik teslim edenlerin sınavları geçersiz sayılacaktır.**
- Sınav başlamadan önce kitapçığın arkasındaki açıklamaları okuyunuz.

BAŞLAYINIZ DENMEDEN SORU KİTAPÇIKLARINI AÇMAYINIZ.



1. OTURUM

(111) DİN KÜL. AHL. BİL. – 1

1. Aşağıdaki ayetlerin hangisi “haki-kati bilmeden ihtimal üzerine hüküm vermekle” ilgilidir?
- A) “Bu Kur’an, ayetlerini düşünsünler ve akıl sahipleri öğüt alsınlar diye sana indirdiğimiz mübarek bir kitaptır.”
(Sad suresi, 29. ayet)
- B) “Onların çoğu zandan başka bir şeye uymaz. Şüphesiz zan, gerçek olandan hiçbir şeyin yerini tutmaz...”
(Yunus suresi, 36. ayet)
- C) “Allah, sizi analarınızın karnından, siz hiçbir şey bilmez durumda iken çıkardı. Şükredesiniz diye size kulaklar, gözler ve kalpler verdi.”
(Nahl suresi, 78. ayet)
- D) “Kitap’ı okuyup durduğunuz hâlde kendinizi unuttur da başkalarına mı iyilik tavsiye edersiniz? Düşünmez misiniz?”
(Bakara suresi, 44. ayet)

2. “Münafıklar sana geldiklerinde ‘Şahitlik ederiz ki sen Allah’ın peygamberisin.’ derler. Allah da bilir ki sen elbette O’nun peygamberisin. Allah, münafıkların kesinlikle yalan söylediklerini bilmektedir.”
(Münafikun suresi, 1. ayet)

Bu ayette “münafıklar” ile ilgili vurgulanan tutum ve davranış aşağıdakilerden hangisidir?

- A) Verdikleri sözleri tutmamaları
B) Düşmanlıkta aşırıya kaçmaları
C) İnançlarında samimi olmamaları
D) Emanete ihanet etmeleri

3. Aşağıdakilerden hangisi “itikadi bilginin” özelliklerinden biridir?
- A) Zannîdir.
B) Sabittir.
C) Şüphe içerir.
D) Taklide dayalıdır.

4. “Allah dağına göre kar verir.”
Bu atasözü aşağıdaki ayetlerden hangisi ile anlamca aynı doğrultudadır?
- A) “... Rabb’imiz! Unuttur ya da yanırlırsak bizi sorumlu tutma! Bize, bizden öncelilere yüklediğin ağır yüklerden yükleme! Rabb’imiz! Bize gücümüzün yetmediği şeyleri de yükleme! Bizi affet...”
(Bakara suresi, 286. ayet)
- B) “Ey iman edenler! Allah’ın size helal kıldığı iyi ve temiz şeyleri kendinize haram kılmayın...”
(Maide suresi, 87. ayet)
- C) “Ey iman edenler! Yapmayacağınız şeyleri niçin söylüyorsunuz? Yapmayacağınız şeyleri söylemeniz Allah katında büyük bir günahtır.”
(Saf suresi, 2 ve 3. ayetler)
- D) “... Onlar namaza kalktıkları zaman üşenerek kalkarlar, insanlara gösteriş yaparlar, Allah’ı da pek az hatıra getirirler.”
(Nisa suresi, 142. ayet)

5. Aşağıdaki tutum ve davranışlardan hangisi “farziyân” kapsamındadır?
- A) Zanaat sahibi olmak
B) Bilimsel çalışma yapmak
C) Hak ve hukuku gözetmek
D) İslami ilimlerde uzmanlaşmak

6. I. İtikat
II. Muvahhit
III. İhlas
IV. Hanif
V. İman
Numaralanmış kavramlar eş anlamlılarıyla eşleştirildiğinde hangisi dışta kalır?
- A) II B) III C) IV D) V

7. “Allah’ı ve ahiret gününü açıkça inkâr eden kişi” aşağıdakilerden hangisiyle isimlendirilir?
- A) Müşrik B) Münafık
C) Günahkâr D) Kâfir

8. Aşağıdakilerden hangisi İslam âlimlerinin “din” tanımında yer verdiği ifadelerden biri değildir?
- A) İnsanın iradesi ile seçilir.
B) Akıl sahibi insana hitap eder.
C) İnsan çabasının bir ürünüdür.
D) İnsanın mutluluğunu amaçlar.

9. “Haniflik” kavramının zıt anlamlısı aşağıdakilerden hangisidir?
- A) Şirk B) Haram
C) Fesat D) Günah

10. “Hz. Muhammed’in (sav) bazen yapıp bazen terk ettiği nafîle hükmündeki davranışlar” aşağıdakilerden hangisiyle isimlendirilir?
- A) Farz B) Vacip
C) Mübah D) Mendup

11. Oruç yalnızca açlığa sabretmekten ibaret değildir. Varlık içinde israfa kaçmadan yaşamayı, elindekileri insanlarla paylaşmayı, imkânsızlıklar karşısında sabırlı olmayı bir mesuliyet olarak gören çok yönlü bir disiplidir.

Bu metinden “oruç ibadeti” ile ilgili aşağıdakilerden hangisine ulaşılmaz?

- A) İnsanı bencillikten kurtardığına
B) Sorumluluk duygusunu geliştirdiğine
C) Bireysel ve toplumsal yönüne
D) Sağlık üzerinde olumlu etkileri bulunduğuna

1. OTURUM

(112) DİN KÜL. AHL. BİL. – 2

1. Din; dürüstlük, sorumluluk, adalet gibi ahlaki ilkeleri öğütleyerek insanı iyiliğe yönelten ve toplumun birlik ve beraberliğini kuvvetlendiren önemli bir unsurdur. Dinin yardımlaşma ve dayanışmaya dair öğütleri toplum hayatı için vazgeçilmezdir.

Bu metnin konusu aşağıdakilerden hangisidir?

- A) Din ve ahiret inancı
B) Dinin tanımı ve kaynağı
C) İnsanın doğası ve inanma ihtiyacı
D) Değerlerin oluşumunda dinin etkisi

2. “Kişi dostunun etkisi altındadır. Bu yüzden her biriniz, kiminle dostluk ettiğine dikkat etsin.”

Bu hadis aşağıdaki atasözlerinden hangisi ile ilişkilendirilemez?

- A) Arkadaşını söyle, kim olduğunu söyleyeyim.
B) Bir elin nesi var, iki elin sesi var.
C) Üzüm üzüme baka baka kararır.
D) Kır atın yanında duran ya huyundan ya suyundan.

3. Toplumsal barış, huzur ve güven ortamının temin edilmesinde - - - - önemli bir yeri vardır.

Bu cümlede boş bırakılan yere aşağıdakilerden hangisinin getirilmesi uygun değildir?

- A) saygının B) kanunların
C) çekışmenin D) değerlerin

4. “Zulüm” kavramının zıt anlamı aşağıdakilerden hangisidir?

- A) Şecaat B) Adalet
C) Tevazu D) İffet

5. İslam medeniyeti için aşağıdakilerden hangisi söylenemez?

- A) Etkileşime kapalıdır.
B) Vahiy kültürüne dayanır.
C) İnsanı merkeze alır.
D) İlimi teşvik eder.

6. “Babürler Devleti’nin Türk-İslam kültür eserleriyle zenginlik kattığı ve günümüzde Çin’den sonra nüfusu en fazla olan coğrafya” aşağıdakilerden hangisidir?

- A) Hicaz
B) Endülüs
C) Hint alt kıtası
D) Kudüs ve çevresi

7. İnsanlık tarihi boyunca Mekke şehrinin önemli olmasının sebebi aşağıdakilerden hangisidir?

- A) Kâbe’nin burada yer alması
B) Arap Yarımadası’nda bulunması
C) Hz. Muhammed’in burada doğması
D) Ekonomisinin hayvancılığa dayanması

8. Kudüs ile ilgili aşağıdakilerden hangisi yanlıştır?

- A) Semavi dinlerce kutsal kabul edilir.
B) Mescid-i Nebi burada inşa edilmiştir.
C) Bir dönem, Müslümanların kiblesi olmuştur.
D) Miraç hadisesinin başladığı yerdir.

9. İslam medeniyetinin izlerini günümüze aktaran önemli şehirlerden “Semerkant, Buhara ve Kaşgar” aşağıdaki bölgelerin hangisinde yer alır?

- A) İran B) Mağrib
C) Hicaz D) Türkistan

10. “İlim ve akılla gerçeği bulmak, sorunlar karşısında çözüm üretip uygun olanı yapmak” anlamına gelen değer aşağıdakilerden hangisidir?

- A) İffet B) Hikmet
C) Şecaat D) Adalet

11. “Endülüs Emevi Devleti’nden günümüze kalan önemli mimari ve kültürel eserlerden olan cami” aşağıdakilerden hangisidir?

- A) Kurtuba B) Ezher
C) Mansur D) Amr bin Âs

(115) DİN KÜL. AHL. BİL. – 5

1. Aşağıdakilerden hangisi ahirete uğurlanan kişiyi “tezkiye” için yapılan davranışlardan biri değildir?

- A) Haklarını helal etmek
B) Mağfireti için dua etmek
C) Hüsnüshadetle bulunmak
D) Defin işleminde orada olmak

2. “Ölseniz de öldürülseniz de Allah’ın huzurunda toplanacaksınız.” (Al-i İmran suresi, 158. ayet)

Bu ayette aşağıdakilerden hangisi vurgulanmaktadır?

- A) Araf B) Haşir
C) Kıyamet D) Mizan

3. İnsanın; bu dünyaya nereden ve niçin geldiği, sonrasında nereye gideceği ve neyle karşılaşacağı sorularına cevap verebilen tek kaynak dindir.

Bu cümlede dinin aşağıdaki özelliklerinden hangisi vurgulanmaktadır?

- A) İnsanın hayatını anlamlandırmasına yardımcı olduğu
B) Bireysel ve toplumsal sorumluluklara dikkat çektiği
C) Nefis terbiyesiyle mutluluğa ulaşmayı öğütlediği
D) Akıl ve irade sahibi varlıkları muhatap kabul ettiği

1. OTURUM

4. Aşağıdakilerden hangisi Hz. Muhammed'in (sav) peygamberlik görevi ile ilgili değildir?

- A) Allah'tan vahiy alması
- B) Tebük Seferi için ordu hazırlaması
- C) İsrâ ve Miraç hadisesini yaşaması
- D) İbadetlerde insanlara örnek olması

5. "Hristiyanların Meryem oğlu İsa'yı övmeyi abarttıkları gibi siz de beni övmeye ölçüyü kaçırmayın. Şüphesiz ki ben Allah'ın kuluym. Onun için bana, 'Allah'ın kulu ve Resulü' deyin."

Bu hadiste verilen mesajı anlamca destekleyen ayet aşağıdakilerden hangisidir?

- A) "Hep birlikte Allah'ın ipine sımsıkı sarılın, parçalanmayın..." (Al-i İmran suresi, 103. ayet)
- B) "... Doğruluk sınırlarını aşarak dininizde aşırılığa gitmeyin..." (Maide suresi, 77. ayet)
- C) "Allah'ın sana lütfu ve esirgemesi olmasaydı onlardan bir gruh seni yanıltmaya yeltenmişti; hâlbuki onlar ancak kendilerini saptırırlar..." (Nisa suresi, 113. ayet)
- D) "Kitab'ı okuyup durduğunuz hâlde kendinizi unuttur da başkalarına mı iyilik tavsiye edersiniz?.." (Bakara suresi, 44. ayet)

6. "Cihat" kavramıyla ilgili aşağıdakilerden hangisi yanlıştır?

- A) Farziya'n ve farzıkifaye olduğu durumlar bulunmaktadır.
- B) Mekki ve medeni ayetlerde farklı anlamlarda kullanılmıştır.
- C) İçeriğinde nefis terbiyesi ve ilim öğrenmek gibi faaliyetler vardır.
- D) Güçsüz olunan durumlarda düşünme boyunca eğmeyi gerektirir.

7. Aşağıdaki ayetlerin hangisinde "ahiret hayatında ödül ve ceza" konusundan açıkça bahsedilmiştir?

- A) "Sizin kendisinden kaçıp durduğunuz ölüm var ya, o mutlaka size ulaşacaktır..." (Cuma suresi, 8. ayet)
- B) "Allah, eceli gelince hiç kimsenin ölümünü ertelemeyiz. Allah yapıp ettiklerinizden tamamen haberdardır." (Münafikun suresi, 11. ayet)
- C) "Her canlı ölümü tadacaktır. Ancak kıyamet günü yaptıklarınızın karşılığı size tastamam verilecektir..." (Al-i İmran suresi, 185. ayet)
- D) "Nihayet onlardan birine ölüm gelip çatınca 'Rabbim! Beni geri gönder de geride bıraktığım dünyada iyi işler yapayım.' der..." (Müminun suresi, 99 ve 100. ayetler)

8. Hz. Muhammed (sav) Mekke'nin fethi için çıktığı seferde yol üzerinde yavrularını emziren bir köpek gördü. Hayvanları ürkütmemek için hemen ordunun yolunu değiştirdi.

Bu metinde Hz. Muhammed'in (sav) aşağıdaki özelliklerinden hangisi vurgulanmaktadır?

- A) Sabrı
- B) Cesareti
- C) Tevazusu
- D) Merhameti

9. Aşağıdaki ayetlerin hangisinde "irade eğitime" değinilmemiştir?

- A) "Yavrucuğum, namazını özenle kıl, iyi olanı emret, kötü olana karşı koy, başına gelene sabret..." (Lokman suresi, 17. ayet)
- B) "Sizi biraz korku ve açlıkla; mallardan, canlardan ve ürünlerden eksiltmekle sınavacağız. Sabredenleri müjdele!" (Bakara suresi, 155. ayet)
- C) "Göklerin ve yerin hükümranlığı yalnız Allah'ındır. Hem hayat verir hem öldürür. O'nun her şeye gücü yeter." (Hadid suresi, 2. ayet)
- D) "Nefsini temizleyip arındıran kimse kurtuluşa ermiştir. Onu kirletip kötülüklerle boğan kimse de hüsrana uğramıştır." (Şems suresi, 9 ve 10. ayetler)

10. Kişi arkadaşına baktığında kendi eksik ve kusurlarını fark edecek, yanlışlarını düzelterek ve daha iyi davranışların peşinde koşmanın gayretinde olacaktır.

Bu açıklama aşağıdaki hadislerden hangisiyle ilgilidir?

- A) "Mümin müminin aynasıdır."
- B) "Dünyaya ve dünya malına düşkün olmayın."
- C) "Güzel ahlak dinin kabıdır."
- D) "Cihadın en büyüğü nefsi terbiye etmektir."

11. Bir davranış sadece Allah rızası gözetilerek yapılırsa - - - -, gösteriş için yapılırsa - - - - olarak değerlendirilir.

Bu cümlede boş bırakılan yerlere sırasıyla aşağıdakilerden hangileri getirilmelidir?

- A) ibadet - haset
- B) ihsan - fitne
- C) ihlas - rıya
- D) irşat - hile

(121) FELSEFE – 1

1. "Evrende var olan her şeyin nedeni ne olabilir?", "Mutlu olmak ne demektir?", "Bu dünyadaki varlığımın anlamı nedir?" soruları aşağıdaki alanların hangisine aittir?

- A) Coğrafya
- B) Felsefe
- C) Dil
- D) Tarih

2. İnsanın, parçası olduğu dünyada anlamlı yaşam sürdürebilmesi ve doğanın sırlarını çözebilmesi için kendini tanıması gerekir. Bunların bilgisini edinmek de insanın düşünebilmesiyle mümkündür.

Bu parça aşağıdaki sorulardan hangisine cevap niteliğindedir?

- A) İnsan, doğadan üstün müdür?
- B) Dünyanın varoluş amacı nedir?
- C) Bilmenin imkânı ve sınırı var mıdır?
- D) İnsan için düşünmenin önemi nedir?

1. OTURUM

3. Bilinçli bir varlık olan insan, düşünür. Düşünen insan kendini ve dış dünyayı tanımak için sorular sorar. Bilimde, sanatta, teknikte gelişmeler ortaya koyar ve yeni bilgiler üretir. Elde ettiği bilgiler ve kavramlar üzerine düşünür. Böylelikle insan, var olan bilgileri yeniden tartışmaya, soruşturmaya açarak bu bilgilerden hareketle en doğru bilgiye ulaşmaya çabalar. Herhangi bir konuda doğrulara ulaşıldığı düşünülse de o, sonuçlarla yetinmez ve sorgulamaya devam eder.

Buna göre, aşağıdakilerden hangisine ulaşılabilir?

- A) İnsan, hakikat yolundaki bilgi arayışını daima sürdürür.
- B) İnsan dışında düşünebilen başka bir canlı yoktur.
- C) Tanrıyı bilmek için insanın önce kendini bilmesi gerekir.
- D) Felsefenin gelişebilmesi tartışma ikliminin oluşmasıyla mümkündür.

5. Antik Yunan'da felsefe; eleştirel bir zihniyetle din-mitolojik düşünceden kopuşun sonucunda insanların doğayı, doğaüstü değil de yine doğada bulunan nedenlerle açıklamasıyla insan aklına dayanan bağımsız bir faaliyet olarak başlamıştır.

Bu parça, aşağıdaki sorulardan hangisinin cevabıdır?

- A) Antik Yunan'da mitolojinin yeri ve önemi nedir?
- B) Felsefenin insan aklına dayanan bağımsız bir faaliyet olması nasıl başlamıştır?
- C) İnsan psikolojisinin doğaüstü olayların ortaya çıkışında etkisi nedir?
- D) Felsefi düşüncede geleneğin rolü nedir?

6. "Akla ve mantığa dayalı açıklamalarda bulunmak" felsefenin aşağıdaki özelliklerinden hangisini ifade eder?

- A) Yığılımlı ilerleme
- B) Evrensel olma
- C) Rasyonel olma
- D) Sistemli olma

4. "Filozof, hiçbir düşünce coğrafyasının vatandaşı olamaz." sözü ile aşağıdakilerden hangisi vurgulanmıştır?

- A) Filozof olmada içinde bulunulan coğrafyanın etkili olduğu
- B) Düşünmenin, bölgesel bir etkinlik olması gerektiği
- C) Filozofun, tüm insanlığın sorunlarını kendine problem edinmesi gerektiği
- D) Filozofların milliyetlerinin önemi olduğu

7. Aşağıdakilerden hangisi felsefenin bireylerin hayatı üzerindeki etkisine örnek verilemez?

- A) Mehmet'in, okuduğu kitabın kahramanının fikirlerini olduğu gibi benimsemesi
- B) Filiz'in, bilgi sahibi olmadığı konuya tarafsız ve eleştirel yaklaşması
- C) Ebru'nun, iş seçimi yaparken akli ve özgür iradesi ile karar vermesi
- D) Ali'nin, açık oturumda üzerinde durduğu bütün kavramları doğru kullanması

8. • Locke'un görüş ve düşünceleri Amerikan Anayasası ve İnsan Hakları Bildirgesi'nin hazırlanmasında etkili olmuştur.
• Rousseau'nun ve Voltaire'in görüş ve düşünceleri, Fransız demokrasisinin doğuşuna önemli katkılar sunmuştur.

Buna göre, aşağıdakilerden hangisine ulaşılabilir?

- A) Demokrasi, 17. yüzyılda tam anlamıyla uygulanmaya başlanmıştır.
- B) Filozofların fikirleri, toplumsal dönüşümlerin gerçekleşmesinde etkili olmuştur.
- C) Skolastik düşüncenin hâkimiyeti, ilk olarak Amerika ve Fransa'da son bulmuştur.
- D) Siyaset felsefesi Locke, Rousseau ve Voltaire ile başlamıştır.

9. İyi düşünenler, düşünceleri hakkında düşünürler. Düşündüklerini sorgulamadan kabul etmezler. Düşüncelerini fark ederler.

Bu parçada felsefi düşüncenin aşağıdaki özelliklerinden hangisi vurgulanmıştır?

- A) Refleksifliği
- B) Tutarlılığı
- C) Sistemliliği
- D) Evrenselliği

10. İki şey arasındaki ortak olan özelliğe veya benzerliğe dayanarak birisi için verilen yargıyı diğeri için de veren akıl yürütme türüne analogi denir.

Buna göre, aşağıdaki akıl yürütme türlerinden hangisi analogi örneğidir?

- A) Bütün kalabalık şehirler güzeldir. Bakü de kalabalık bir şehirdir. O hâlde, Bakü de güzeldir.
- B) Bütün bitkiler doğaya fayda sağlar. Kaktüs de bir bitkidir. O hâlde, kaktüs de doğaya fayda sağlar.
- C) Yeşil ve yuvarlak olan her şey elmadır. Karpuz da yeşil ve yuvarlaktır. O hâlde, karpuz da elmadır.
- D) Türkiye Akdeniz ülkesidir ve zeytin yetiştiriciliğine uygundur. İspanya da Akdeniz ülkesidir. O hâlde, İspanya da zeytin yetiştiriciliğine uygundur.

1. OTURUM

11. Sahip olduğumuz düşüncelerin her biri kavramlarla yönlendirilir. Kavramların yanlış kullanılması anlamın değişmesine neden olur. Bu nedenle; insanın, kullanacağı kavramları sorgulamadan, üzerinde düşünmeden konuşmaması gerekir. Kavramların doğru kullanılması; olayların, durumların, nesnelerin, duyguların doğru kavramsallaştırılmasına bağlıdır.

Bu parçada aşağıdakilerden hangisinin önemi vurgulanmıştır?

- A) İletişimin işlevi
B) Düşüncenin oluşmasında toplumun etkisi
C) Kavramların doğru kullanılması
D) Kültürün gelecek kuşaklara aktarılması

(125) FELSEFE – 3

1. Sen bilgin bir adamsın, bunları bilmen gerek. Ey Gılgamış! Bulamayacağın ölümsüzlüğü aramak için kaybettiğin zamana yazık olmuş. Sana verilen bu yaşamın tadını çıkarmaya bak! Gece gündüz keyiflen. Her gününü üzüntüyle değil sevinçli geçirmeye çalış.

Buna göre, aşağıdakilerden hangisine ulaşılabilir?

- A) Bilgin olmanın ölümsüzlüğe erişmekle mümkün olduğuna
B) Üzülmeyen ve sevilmeyen insana özgü duygular olduğuna
C) İnsanların kötülüklerden arınmasının mümkün olduğuna
D) İnsanın ölümsüz bir hayat arayışının zaman kaybı olduğuna

2. "Kimse bilerek kötülük yapmaz." sözüne göre kötülüğün kaynağı aşağıdakilerden hangisidir?

- A) Korkaklık B) Adalet
C) Cehalet D) Bilgelik

3. Formel neden bir şeyin biçimsel nedenidir.

Buna göre, "bir sanatçının tarihsel bir olayı hatırlatması için mermerden bir heykel yapması" örneğinde aşağıdakilerden hangisi formel nedendir?

- A) Mermerin heykelle dönüşmesini sağlayan sanatçı
B) Heykelin tarihsel bir olayı hatırlatması için yapılması
C) Heykelin yapıldığı mermer
D) Sanatçı tarafından oluşturulan heykel

4. Mutluluk; ruhun amacıdır ve bu amaçla uygun davranış, erdeme uygun olan davranıştır.

Aristoteles'in bu sözü felsefenin aşağıdaki alanlarından hangisiyle ilgilidir?

- A) Varlık B) Ahlak
C) Sanat D) Bilgi

5. Aşağıdakilerden hangisi bilgi ile ilgili değildir?

- A) Her eylem iyiyi arzular.
B) Bir şeyin bilinmesi onun nedenlerinin bilinmesidir.
C) Bütün insanlar doğal olarak bilmek ister.
D) Varlığın bilgisi ona ait olan kategorilerle belirlenir.

6. Aristoteles'e göre erdemli olmak iki uç arasında orta yolu bulmaktır. Erdemlilik, eylemlerin aşırılığı ya da eksikliği nedeniyle bozulur.

Buna göre, "korkaklık" ve "delice atılganlık" uç durumlarının erdemi aşağıdakilerden hangisidir?

- A) Savurganlık B) Bilgelik
C) Cesaret D) Dürüstlük

7. El Kindi, Farabi, İbn Sina ve İbn Rüşd gibi filozoflar tarafından "meşşâiye felsefesi" oluşturulmuştur. Bu felsefe İslam esaslarına bağlı, ağırlıklı olarak Aristoteles, kısmen de Platon etkisiyle oluşmuş mantık ve matematik temelli görüşler içerir.

Buna göre, İslam felsefesiyle ilgili aşağıdakilerden hangisine ulaşılabılır?

- A) Çeviri faaliyetleri yapılmıştır.
B) Antik Yunan felsefesinden etkilenilmiştir.
C) Sonraki dönem felsefesine kaynaklık etmiştir.
D) Arkhe problemi temel araştırma alanını oluşturmuştur.

8. İbn Sina'ya göre zorunlu varlık; varlığı başka bir varlığa muhtaç olmayan, ezeli ve ebedi varlıktır. Mümkün varlık ise etrafta görülen, sürekli bir şekilde var olan ama daha sonra yok olan varlıklardır.

Buna göre, aşağıdakilerden hangisi zorunlu varlıktır?

- A) Akıl B) İnsan
C) Yaratıcı D) Nesne

9. I. Felsefenin konusu insan, doğa ve evrendir.
II. Bilim, Tanrı'nın yarattığını anlamak için önemlidir.
III. Toplumsal hayat dünyevidir.
IV. Teoloji, felsefeye egemendir.

Numaralanmış yargılardan hangileri skolastik düşünceye aittir?

- A) I ve III B) I ve IV
C) II ve III D) II ve IV

10. Descartes "Düşünüyorum öyleyse varım." sözüyle aşağıdaki felsefe alanlarından hangileri arasında bağlantı kurmuştur?

- A) Bilgi-Varlık
B) Bilgi-Sanat
C) Ahlak-Varlık
D) Sanat-Din

1. OTURUM

11. **Newton**'ın "Dünyaya nasıl göründüğümü bilmiyorum ama ben kendimi keşfedilmemiş gerçeklerle dolu bir okyanusun kıyısında oynayan, düzgün bir çakıl taşı ya da güzel bir deniz kabuğuna sevinen bir çocuk gibi görüyorum." **sözünden hareketle Newton ile ilgili aşağıdakilerden hangisi söylenebilir?**

- A) Mantıklı pozitivism görüşünü savunduğu
- B) Evren karşısında merak ve heyecan duyduğu
- C) Galilei'nin fikirlerinden etkilendiği
- D) Etkisinin dünyanın her yerine yayıldığı

(132) TARİH – 2

1. **Aşağıdakilerden hangisi Kavimler Göçü'nün dinî sonuçlarındandır?**

- A) Feodalite rejiminin ortaya çıkması
- B) Roma İmparatorluğu'nun parçalanması
- C) Kilise ve papalığın güç kazanması
- D) Avrupa'nın etnik yapısının değişmesi

2. **Aşağıdakilerden hangisi Böğü Kağan'ın, Mani dinini kabul etmesiyle Uygurlarda meydana gelen değişikliklerdendir?**

- A) Mimaride ve yazılı edebiyatta ilerlemeleri
- B) Savaşçı bir toplum yapısına sahip olmaları
- C) Atlı göçebe kültürünü benimsemeleri
- D) Boylar hâlinde teşkilatlanmaları

3. Orta Asya'nın sert karasal iklimi, bölgede yaşayan Türklerin hayatını derinden etkilemiş, geçim kaynağı olan hayvan sürülerine otlak ve su arayışı konargöçer yaşam tarzının ortaya çıkmasına neden olmuştur.

Bu bilgide, aşağıdakilerden hangisinin Türklerin yaşam tarzına olan etkisinden bahsedilmiştir?

- A) Dinî inanışların
- B) Ticari faaliyetlerin
- C) Coğrafi şartların
- D) Töre kurallarının

4. **Bütün Türk boylarını ilk kez hâkimiyeti altında toplayan Asya Hun Hükümdarı aşağıdakilerden hangisidir?**

- A) Çi-çi
- B) Teoman
- C) Ho-han-yeh
- D) Mete

5. Onuncu yüzyılın sonlarına doğru İslamiyeti kabul eden - - - , Büyük Selçuklu ve Osmanlı gibi cihanşümul devletler kurmuşlardır.

Bu cümlede boş bırakılan yere aşağıdakilerden hangisi getirilmelidir?

- A) Avarlar
- B) Oğuzlar
- C) Türgişler
- D) Karluklar

6. **İslamiyet öncesi Arap Yarımadası'nda merkezî bir devlet kurulmasını engelleyen neden aşağıdakilerden hangisidir?**

- A) Putperestlik inancının yaygın olması
- B) Ekonominin ticaret üzerine kurulmuş olması
- C) Kabilecilik anlayışının hâkim olması
- D) Toplumun sosyal sınıflara ayrılmış olması

7. **Hz. Ebu Bekir'in Müslümanlar tarafından halife olarak seçilmesinde aşağıdakilerden hangisinin etkili olduğu söylenemez?**

- A) Hicret'te Hz. Peygamber'e yol arkadaşlığı yapması
- B) Hz. Peygamber'in vefatından önce imamlık görevini üstlenmiş olması
- C) Hz. Peygamber'in söylediklerine ilk inanılardan biri olması
- D) Hz. Peygamber tarafından devlet başkanı olarak tayin edilmesi

8. **Emeviler Dönemi'nde İslam Devleti'nin merkezi aşağıdakilerden hangisidir?**

- A) Şam
- B) Kûfe
- C) Bağdat
- D) Buhara

9. **Aşağıdakilerden hangisi Hz. Ali'nin halifeliği döneminde yaşanan gelişmelerdendir?**

- A) Hicri takvimin kullanılmaya başlanması
- B) Cemel Vakası'nın yaşanması
- C) Kur'an-ı Kerim'in ilk kez kitap hâline getirilmesi
- D) Müşriklerle Bedir Savaşı'nın yapılması

10. **Aşağıdakilerden hangisi Büyük Selçuklu ve Gazneli Devleti arasında yapılan savaşlardan değildir?**

- A) Nesâ
- B) Serahs
- C) Dandanakan
- D) Pasinler

11. **Türk tasavvuf tarihinin ilk edebî eseri olan "Divân-ı Hikmet" aşağıdakilerden hangisine aittir?**

- A) Yusuf Has Hacip
- B) Ahmet Yesevi
- C) Kaşgarlı Mahmut
- D) Edip Ahmet Yükneki

(136) SEÇMELİ TARİH – 2

1. "Osmanlı Devleti'nin, Avrupa'nın büyük güçleri arasındaki çıkar çatışmalarından yararlanarak varlığını sürdürmeye çalışması"na verilen ad aşağıdakilerden hangisidir?

- A) Tarafsızlık politikası
- B) Denge politikası
- C) Panslavizm politikası
- D) Asimilasyon politikası

2. Kırım Savaşı sonucunda imzalanan Paris Antlaşması (1856) ile "Karadeniz'in tarafsızlığının sağlanması ve Osmanlı kontrolündeki Boğazların yabancı savaş gemilerine kapatılması" kararı alınmıştır.

Paris Antlaşması'nda alınan bu karar ile aşağıdakilerden hangisi amaçlanmıştır?

- A) Balkanlar'daki milliyetçi isyanları bastırarak
- B) Avrupa siyasi haritasını yeniden oluşturmak
- C) Rusya'nın güneye inmesini engellemek
- D) Osmanlı Devleti'ndeki ıslahatları desteklemek

3. Tanzimat Fermanı'nın uygulanması için 1840'ta kırk maddelik bir ceza kanunu çıkarılmıştır. Bu ceza kanunuyla herkesin kanun önünde eşit olduğu ilkesi kabul edilmiş ve merkezde sadrazamın, taşrada da valilerin keyfi uygulamalarına son verilmeyle çalışılmıştır.

Buna göre, Osmanlı Devleti'nde aşağıdaki alanlardan hangisine yönelik bir düzenleme yapılmıştır?

- A) Hukuk
- B) Eğitim
- C) İktisat
- D) Kültür

4. **Osmanlı Devleti'nde meşrutiyet yönetimine aşağıdaki padişahlardan hangisinin döneminde geçilmiştir?**

- A) II. Mahmut
- B) II. Abdülhamit
- C) V. Murat
- D) V. Mehmet Reşat

1. OTURUM

5. Kanun-ı Esasi'ye göre, Osmanlı Genel Meclisinde üyelerinin halkın seçimi ile belirlendiği meclis aşağıdakilerden hangisidir?

- A) Zaptiye Meclisi
- B) Ayan Meclisi
- C) Tanzimat Meclisi
- D) Mebusan Meclisi

6. "Ermeni Meselesi"nin, uluslararası bir sorun olarak ortaya çıktığı antlaşma aşağıdakilerden hangisidir?

- A) Paris
- B) Sevr
- C) Berlin
- D) Londra

7. Aşağıdakilerin hangisi Osmanlı Devleti'nde II. Meşrutiyet'in ilanı (1908) sonrası yaşanan gelişmelerden değildir?

- A) 31 Mart Vakası'nın yaşanması
- B) Bulgaristan'ın bağımsızlığını ilan etmesi
- C) Rusya ile 93 Harbi'nin yapılması
- D) Girit ile Bosna-Hersek'in kaybedilmesi

8. Osmanlı Devleti'nin Kuzey Afrika'daki son toprak parçası olan - - - - 1912'de İtalyanların işgaline uğramıştır.

Bu cümlede boş bırakılan yere aşağıdakilerden hangisi getirilmiştir?

- A) Fas
- B) Mısır
- C) Cezayir
- D) Trablusgarp

9. Osmanlı'nın iç pazarına nüfuz etmek isteyen Avrupalılar, bunun önünde en büyük engel olarak ulaşım yetersizliğini görmüştür. Bu nedenle başta İngiltere olmak üzere bazı Avrupa ülkeleri, iç pazarlara mal taşımak için Osmanlı topraklarında demir yolu ağının kurulmasını sağlamışlardır. Böylece yabancı mallar, iç pazara ucuz fiyatla ve kolayca taşınmış; o bölgelerin ham madde ve tarım ürünleri de Avrupa'ya nakledilmiştir.

Buna göre, Avrupalıların Osmanlı Devleti'ne yönelik aşağıdakilerden hangisini amaçladıkları söylenebilir?

- A) Sömürgecilik faaliyetlerinde bulunmayı
- B) Osmanlı halkının refahını artırmayı
- C) İç ve dış borçlanmaya son vermeyi
- D) Toprak bütünlüğünü garanti altına almayı

10. Aşağıdakilerden hangisi Osmanlı Devleti'nde İttihat ve Terakki yönetimi tarafından "Millî İktisat Politikası" kapsamında yayımlanmıştır?

- A) Muharrem Kararnamesi
- B) Sanayi Kanun-ı Muvakkatı
- C) Maarif-i Umumiye Nizamnamesi
- D) Halepa Fermanı

11. Osmanlı Devleti'nden ayrılan devletlerin faaliyetleri sonucu Türkler, Balkanlarda azınlık durumuna düşürülmeye çalışılmıştır. Bunun sonucunda Balkanlardaki Rus ve Bulgar çetelerinin saldırılarına maruz kalan ve katliamlarından kaçan binlerce Müslüman Türk, kabileler hâlinde Anadolu'ya göç etmek zorunda kalmıştır. Yurtlarında kalanlar ise zulüm ve baskı görmüştür.

Bu bilgidene, Balkanlar'daki durum ile ilgili aşağıdakilerden hangisine ulaşılabilir?

- A) Türk kültürüne ait izler tamamen silinmiştir.
- B) Osmanlı Devleti'nde azınlık isyanları sona ermiştir.
- C) Balkan devletleri kendi aralarında savaşmışlardır.
- D) Türk nüfus çeşitli yöntemlerle azaltılmaya çalışılmıştır.

(151) COĞRAFYA – 1

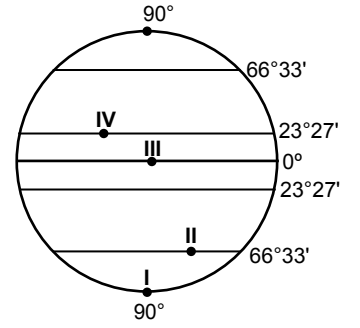
1. İklim özelliklerinin oluşmasını sağlayan doğal ortam şartlarını, iklim tiplerini ve bunların yeryüzündeki dağılımlarını inceleyen bilim dalı aşağıdakilerden hangisidir?

- A) Jeomorfoloji
- B) Hidrografiya
- C) Biyocoğrafiya
- D) Klimatoloji

2. Aşağıdakilerden hangisi Dünya'nın şeklinin geoid olmasının sonuçlarından?

- A) Kutuplara doğru gidildikçe yer çekiminin artması
- B) Güneş ışınlarının düşme açısının Ekvator'dan uzaklaştıkça azalması
- C) Paralel boylarının kutuplara doğru kısalması
- D) Dünya'nın yarısında gece yaşanırken, yarısında gündüz yaşanması

3.



Görselde numaralanmış noktaların hangisinde Dünya'nın çizgisel hızı daha fazladır?

- A) I
- B) II
- C) III
- D) IV

4. Dünya'nın 21 Haziran'da yörüngesindeki konumu görselde verilmiştir.



Buna göre, aşağıdakilerden hangisi bu tarihte Dünya'da yaşanan bir durumdur?

- A) Güneş ışınları Oğlak Dönencesi'ne dik gelir.
- B) Kuzey Yarım Küre'de yaz mevsiminin başlangıcıdır.
- C) Bütün dünyada gece-gündüz süresi eşittir.
- D) Aydınlanma çemberi kutup noktalarına teğet geçer.

5. Meridyenlerle ilgili aşağıdaki bilgilerden hangisi doğrudur?

- A) 180 adet Doğu Yarı Küre'de, 180 adet Batı Yarı Küre'de olmak üzere toplam 360 adettir.
- B) Boyları ekvatoradan kutuplara doğru gidildikçe kısalır.
- C) Aralarındaki mesafe her yerde eşittir.
- D) En büyüğü Ekvator olup 0° ile gösterilir.

1. OTURUM

6. Aşağıdakilerden hangisi büyük ölçekli haritaların özelliklerindedir?

- A) Dar alanları göstermesi
- B) Ayrıntıyı daha az göstermesi
- C) Bozulma oranının fazla olması
- D) Ölçeğin paydasındaki sayının büyük olması

7. 1/2 000 000 ölçeğindeki haritada Ankara - Bursa merkezleri arası 20 cm olarak ölçülmüştür.

Buna göre, iki kent arasındaki gerçek uzaklık kaç km'dir?

- A) 450 B) 400 C) 350 D) 300

8. Türkiye'de kuzeyden esen rüzgârlar estiği bölgede sıcaklıkları düşürür.

Buna göre, aşağıdaki rüzgârlardan hangisi Türkiye'de sıcaklığın düşmesine neden olmaktadır?

- A) Lodos B) Poyraz
- C) Kible D) Samyeli

9. Türkiye'de gerçek sıcaklık ile indirgenmiş sıcaklık arasındaki farkın en az olduğu bölge aşağıdakilerden hangisidir?

- A) İç Anadolu
- B) Ege
- C) Doğu Anadolu
- D) Marmara

10. Aşağıdakilerden hangisi mutlak nemin fazla olduğu yerlerdendir?

- A) Dağların yüksek kısımları
- B) Kutup kuşağı
- C) Deniz kenarları
- D) Çöller

11. İklimler sıcaklık koşullarına göre Dünya'da üç büyük grupta toplanır.

Buna göre, aşağıdakilerden hangisi soğuk iklimlerdendir?

- A) Muson B) Akdeniz
- C) Karasal D) Tundra

(155) SEÇMELİ COĞRAFYA – 1

1. Aşağıdaki yerlerin hangisinde biyoçeşitlilik daha azdır?

- A) Tropikal yağmur ormanlarında
- B) Mercan adalarında
- C) Sıcak çöllerde
- D) Akarsu ağızlarında

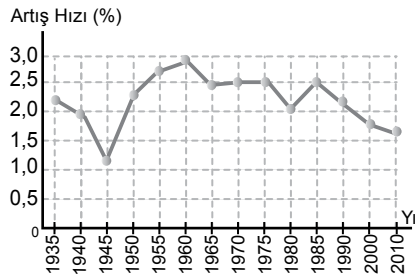
2. Aşağıdakilerden hangisi ekosistemin canlı öğelerinden biridir?

- A) Mikroorganizma
- B) Oksijen
- C) Sıcaklık
- D) Kayaç

3. Aşağıdaki ülkelerden hangisi nüfus artış hızını yükseltmeye yönelik politikalar uygulamaktadır?

- A) Çin B) Japonya
- C) Nijerya D) Pakistan

4. Aşağıda Türkiye'nin nüfus artış hızı grafiği gösterilmiştir.



Buna göre nüfus artış hızının sırasıyla en az ve en fazla olduğu yıllar aşağıdakilerden hangisidir?

- A) 1935 ve 1985
- B) 1945 ve 1960
- C) 1960 ve 2010
- D) 1980 ve 2000

5. Aşağıdaki şehirlerden hangisi dini fonksiyonuyla öne çıkmaktadır?

- A) Oxford B) Paris
- C) Tokyo D) Mekke

6. Köye bağlı yerleşim yerlerinden en yaygın olanıdır.

- Temel ekonomik faaliyet hayvancılıktır.
- Hayvancılığın dışında tatil amaçlı da kullanılır.

Buna göre, verilen özelliklerin tamamı aşağıdaki köy altı yerleşmelerinden hangisine aittir?

- A) Divan B) Çiftlik
- C) Kom D) Yayla

7. Aşağıdakilerden hangisi tüketimi etkileyen beşeri unsurlardandır?

- A) İklim
- B) Moda
- C) Yer şekilleri
- D) Coğrafi konum

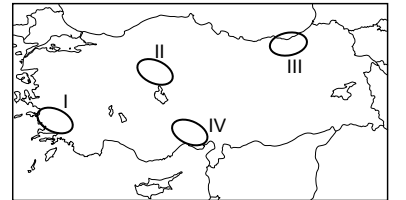
8. Aşağıdakilerden hangisi 1923-1932 yılları arasında Türkiye'de tarım ve sanayinin gelişmesini desteklemek için yapılan hamlelerden biri değildir?

- A) Aşar vergisinin kaldırılması
- B) Ziraat Bankası aracılığıyla çiftçilere kredi verilmesi
- C) Teşvik-i Sanayi Kanunu'nun çıkarılması
- D) II. Dünya Savaşı nedeniyle kaynakların savunma amaçlı kullanılması

9. Aşağıdaki enerji kaynaklarından hangisi çevreyi diğerlerine göre daha az kirletir?

- A) Doğal gaz B) Petrol
- C) Taş kömürü D) Linyit

10. Yaşadığım çevre bol yağışlı ve oldukça engebeldir. Yağışın bol olması tarımsal faaliyeti olumlu etkilerken, engebeli arazi tarımı ve ulaşımı olumsuz etkilemektedir. Buna bağlı olarak da yerleşmelerin dağınık olduğunu görürsünüz. Bu engebeli topografyaya rağmen çay ve fındık bölgemizin en önemli tarım ürünleridir.



Bu metinde, bulunduğu yer hakkında bilgi veren kişinin harita üzerinde numaralanmış yerlerin hangisinde yaşadığı söylenebilir?

- A) I B) II C) III D) IV

1. OTURUM

11. Bazı enerji kaynaklarına ait bilgiler şunlardır:
- Yer altından çıkarılan sıcak su ve su buharından elde edilir.
 - Uranyum ve toryum gibi radyoaktif minerallerin parçalanmasıyla elde edilir.
 - Dünya ve Ay arasındaki harekete bağlı açığa çıkan enerji kaynağıdır.

Buna göre, verilen bilgilerde aşağıdaki enerji kaynaklarının hangisinden söz edilmemiştir?

- A) Gelgit
B) Nükleer
C) Hidroelektrik
D) Jeotermal

(157) SEÇMELİ COĞRAFYA – 3

1. (I) Rusya'nın Sibirya bölgesinde yer alan Yakutsk şehri 250 bin nüfusa sahiptir. (II) Rusya Federasyonu'na bağlı özerk Yakutistan Cumhuriyeti'nin başkentidir. (III) Kentte sıcaklık kışın -64°C 'ye kadar düşebiliyor. (IV) Buna rağmen Yakutsk'da hayat devam ediyor.

Numaralanmış cümlelerin hangisinde bir doğa olayından söz edilmiştir?

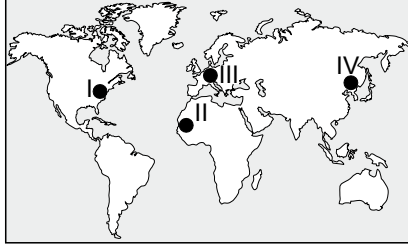
- A) I B) II C) III D) IV

2. • Fosil yakıtlar yerine alternatif enerji kaynaklarının kullanılması
• Ülkelerin sera gazı salımının %5'in altına çekilmesi
• Az enerji tüketen sistemlere geçilmesi

Verilenler aşağıdaki uluslararası iklim sözleşmesi veya anlaşmasından hangisine aittir?

- A) Kyoto Protokolü
B) Paris İklim Anlaşması
C) Hükümetler arası İklim Değişikliği Paneli (IPCC)
D) Ramsar Sözleşmesi

3. Sanayileşme, beraberinde karbon salımını da artırır.



Buna göre, haritada numaralanmış alanların hangisinde karbon salımı daha azdır?

- A) I B) II C) III D) IV

4. Türkiye'de istatistik verilerini tutan ve güncelleyen kurum aşağıdakilerden hangisidir?

- A) KGM B) TÜİK
C) DSİ D) OGM

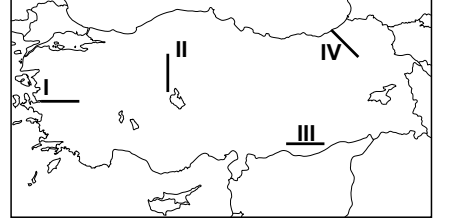
5. Aşağıdakilerden hangisi Doğu Karadeniz Projesi'nin hedeflerinden biridir?

- A) Meraların tarıma açılması
B) Bölge dışına göçü arttırmak
C) Dağınık yerleşmeleri bir araya toplamak
D) Ulaşım, iletişim ve altyapı hizmetlerini geliştirmek

6. Turizm sektörü aşağıdakilerden hangisiyle Türkiye'ye daha fazla katkı sağlamaktadır?

- A) İstihdamı artırmasıyla
B) Sanayileşmeyi hızlandırmasıyla
C) İç göçü azaltmasıyla
D) Ulaşım sistemlerini geliştirmesiyle

7. Türkiye'deki dağların uzanışının genel olarak doğu-batı yönlü olması kıyı ile iç kesimler arasındaki ulaşımı zorlaştırmakta ve yol yapım maliyetlerini artırmaktadır.



Buna göre haritada numaralanmış hatların hangisinde ulaşım maliyetlerinin daha fazla olması beklenir?

- A) I B) II C) III D) IV

8. Bir ülkenin idari sınırları içinde olan, ülkenin diğer kesimlerinden farklı olarak dış satıma yönelik bazı ekonomik ayrıcalıkların tanındığı bölgelere - - - - denir.

Bu parçada boş bırakılan yere aşağıdakilerden hangisi gelmelidir?

- A) serbest bölge
B) sınır ticareti
C) pazar alanı
D) ithalat

9. Aşağıdakilerden hangisi Uzak Doğu Ticaret Bölgesi ülkelerinden biri değildir?

- A) Singapur B) Tayvan
C) İran D) Güney Kore

10. Balonumuz yükselmeye başladı. Biraz alçalarak biraz yükselerek rüzgârla birlikte yol alıyoruz. Buradan peribacaları ve üzüm bağları ne kadar da ihtişamlı gözüküyor. Kartpostallık bir manzara izler gibiyiz.

Bu metinde bahsedilen yer aşağıdaki illerimizden hangisinin sınırları içindedir?

- A) Muğla B) Nevşehir
C) Bartın D) Adıyaman

1. OTURUM

11. Türkiye'nin turizm potansiyeli ve varlıkları ile ilgili aşağıdakilerden hangisi yanlıştır?

- A) Birçok medeniyete ev sahipliği yapması tarihi ve kültürel eserlere sahip olmasını sağlamıştır.
- B) Fay hatlarının yaygın olması termal turizmi olumlu etkilemiştir.
- C) Ortalama yükseltisinin fazla olması kış turizmi için elverişli şartlar sunar.
- D) Kuruyan göl yatakları kuş gözlemciliğinin gelişmesini sağlamıştır.

(181) İNGİLİZCE – 1

1-8. sorularda boş bırakılan yere/yerlere uygun gelen kelime ya da ifadeyi işaretleyiniz.

1. Meg is having breakfast - - - -.

- A) yesterday
- B) in the mornings
- C) at the moment
- D) last Saturday

2. Alice has a project of planting lots of trees because she wants to - - - -.

- A) save the planet
- B) damage the nature
- C) survive without water
- D) waste the electricity

3. This is the - - - - book I've ever read. It has a lovely and interesting story. I really liked it.

- A) most
- B) best
- C) least
- D) farthest

4. Taylor : Where is the Salty Lake? Olivia : - - - -.

- A) It is in the countryside
- B) You can have a picnic there
- C) It is an ideal place for fishing
- D) There are benches for sitting

5. My grandfather is a very - - - - person because he always gives money to charity organizations and helps everyone.

- A) talented
- B) serious
- C) punctual
- D) generous

6. Jerry: Would you like to go to the theatre with me?

Alice: Why not? I am totally free.

Jerry: OK. I - - - -.

Alice: There is no need. We can meet there.

- A) want to see this play
- B) will stay at home
- C) think it is a good idea
- D) will pick you up at 8 p.m

7. Allan : Do you like going trekking?

Brenda : No, I don't because I - - - -.

- A) hate being in nature
- B) think trekking is enjoyable
- C) go trekking once a month
- D) always want to try it

8. George isn't interested in playing the piano, so he - - - - plays it.

- A) always
- B) often
- C) never
- D) usually

9. Hello, my name is Fred. I am German. I am a college student. I have a small family. I am the only child. My mother is a teacher and my father is a dentist.

Bu metinde aşağıdaki sorulardan hangisinin cevabı yoktur?

- A) How many brothers does Fred have?
- B) What does Fred study?
- C) Where is Fred from?
- D) What do Fred's parents do?

10. Mike : Can you tell me - - - - can I get to the Grand Bazaar?

Robert : Take the second - - - - from the police station. You can see it - - - - the community centre and the hotel.

Aşağıdakilerden hangisi bu diyalogda boş bırakılan yerlerin herhangi birine getirilemez?

- A) left
- B) between
- C) how
- D) neighbourhood

11. Michael : How about watching a thriller movie at my home?

Alex : Oh, what a great idea, I will join you.

John : I'm very busy, but I'd like to come. I love thrillers.

Andrew : I'd love to, but I have to study for my English project.

Bu diyaloga göre, aşağıdakilerden hangisi söylenemez?

- A) Michael invites his friends to watch a thriller movie.
- B) Alex wants to watch the movie.
- C) John refuses the invitation.
- D) Andrew has another plan.

(181) ALMANCA – 1

1-10. sorularda boş bırakılan yere/yerlere uygun gelen kelime ya da ifadeyi işaretleyiniz.

1. A: - - - - Sprachen kannst du sprechen?

B: Deutsch und Englisch.

- A) Wie
- B) Welche
- C) Was
- D) Womit

2. Das ist Kadriye. Sie - - - - Deutsch, weil sie morgen eine Prüfung hat.

- A) hast
- B) geht
- C) sein
- D) lernt

1. OTURUM

3. Das sind - - - - Stifte. (sie)

- A) seine B) ihre
C) meine D) deine

4. A: Wann hast du Mathematik?

B: Ich habe - - - - Montag, Dienstag und Donnerstag Mathematik.

- A) im B) um
C) am D) in

5. A: Welches ist deine Lieblings-AG?

B: Musik. Denn ich - - - - gerne.

- A) singe B) singt
C) singen D) singst

6. Ich habe zwei Brüder und eine Schwester.

Wir sind zusammen vier - - - -.

- A) Verwandte B) Eltern
C) Geschwister D) Nachbarn

7. Mein Vater ist Lehrer. Er - - - - die Schüler an einer Grundschule.

- A) backt B) arbeitet
C) kochen D) unterrichtet

8. Meine Großmutter hat ein - - - - (Yuvarlak) Gesicht.

- A) rundes B) breites
C) langes D) dickes

9. Ich - - - - an Wochenenden immer spät - - - -.

- A) ziehe /auf
B) stehen / auf
C) gehe / schlafen
D) schlafe / geht

10. Ich möchte eine Tasse Kaffee - - - - Milch.

- A) ohne B) bei
C) zu D) um

11. Welcher Tag ist am Wochenende?

- A) Donnerstag B) Sonntag
C) Mittwoch D) Montag

(181) FRANSIZCA – 1

1-9. sorularda boş bırakılan yere/ yerlere uygun gelen kelime ya da ifadeyi işaretleyiniz.

1.



Alex : - - - - ?

Céline : C'est le frère de Lucas.

- A) Tu as quel âge
B) C'est quoi
C) C'est qui
D) Qu'est-ce que c'est

2.



C'est - - - - sac à dos - - - - Sarah.

- A) le / de
B) une / de
C) de / un
D) la / une

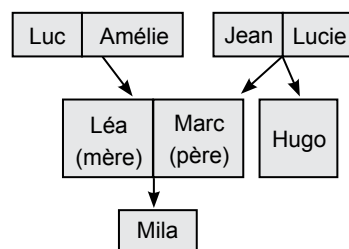
3. M. Fournier : Bonjour Madame Simon. - - - - ?

Mme Simon : Je vais très bien, merci. Monsieur Fournier. Et vous ?

M. Fournier : Très bien, merci.

- A) Ça va, merci
B) Comment t'appelles-tu
C) Comme si, comme ça
D) Comment allez-vous

4.



C'est Hugo. Il est - - - -.

- A) le grand-père de Mila
B) le frère Lucie et Léa
C) le fils Jean et Lucie
D) l'oncle de Luc et Marc

5. Pierre : Maman, Je ne me sens pas bien !

Maman : Qu'est-ce que tu - - - - ma chéri ?

Pierre : J'ai mal à la gorge.

Maman : J'appelle le docteur !

- A) as B) vas
C) es D) mal

1. OTURUM

6. Papa prépare le petit déjeuner. Je mange - - - - céréales et - - - - miel. Comme boisson je prends - - - - thé.

- A) des /de la /du
- B) des/du/du
- C) du/des/du
- D) de la/des/de la

7. James habite - - - - New York, - - - - Etats-Unis.

- A) au / en
- B) à / au
- C) à / aux
- D) en / des

8. Il fait chaud, je porte - - - -.

- A) le cache-col
- B) le manteau
- C) le pull
- D) le tee-shirt

9. Enfant : - - - -

Femme : Eh bien, moi, je suis belge.

- A) Vous êtes allemand ?
- B) De quelle nationalité êtes-vous ?
- C) Tu n'es pas turc, n'est-ce pas ?
- D) Votre nom de famille, s'il vous plaît !

10. 06 :30 07 :00 08 :00 17 :15



Bu görsellere göre, aşağıdakilerden hangisi doğrudur?

- A) Elle se réveille à six heures et demie, prend le bus à dix-huit heures.
- B) Elle prend son petit-déjeuner à sept heures, commence le travail à huit heures.
- C) Elle se réveille à sept heures, prend son petit-déjeuner à huit heures et demie.
- D) Elle commence le travail à huit heures et prend le bus à dix-huit heures.

11.



Salut ! Je m'appelle Barbara. Je suis italienne. J'ai 17 ans. Je suis étudiante. J'ai une sœur. Elle a 19 ans.

Elle habite à Paris. Elle aime la lecture et le cinéma. Mais moi, je déteste le cinéma. J'aime le théâtre.

Bu metne göre, aşağıdakilerden hangisi doğrudur?

- A) Barbara étudie à Paris.
- B) La sœur de Barbara habite en Italie.
- C) Barbara et sa sœur aiment le théâtre.
- D) Barbara n'aime pas le cinéma.

(195) SEÇMELİ ORTAK TÜRK TARİHİ – 1

1. Eski Türklerin ilk ata yurtlarından biri olan - - - -, doğuda Kingan Dağları'ndan batıda Hazar Denizi ve İdil havzalarına, güneyde Hindikuş ve Karakorum Dağları'na, kuzeyde Sibirya'ya kadar uzanır.

Bu cümlede boş bırakılan yere aşağıdakilerden hangisi getirilmelidir?

- A) Kafkaslar
- B) Orta Asya
- C) Batı Avrupa
- D) Balkanlar

2. Andronovo kültür bölgesinde yapılan arkeolojik kazılar sonucunda bakır eşyaların yanı sıra tunç, gümüş ve altından süs eşyalarına rastlanmıştır. Bu bölgede yaşamış olan toplumun, eşyalarını hayvan figürleri ile süslediği görülmüştür.

Buna göre, bu toplum ile ilgili aşağıdakilerden hangisine ulaşılabılır?

- A) Yerleşik hayata geçtiklerine
- B) Farklı milletleri örnek aldıklarına
- C) El işçiliğine dayalı ürünler oluşturdıklarına
- D) Sınır komşularıyla ticaret yaptıklarına

3. Asya Hun İmparatorluğu aşağıdaki devletlerden hangisinin müdahalesi sonucunda parçalanıp dağılmıştır?

- A) Çin
- B) Pers
- C) Bizans
- D) Sasani

4. Avrupa Hun Hükümdarı Attila ile ilgili İtalya'da, Galya'da, Germen memleketlerinde, Britanya'da, İskandinavya'da ve bütün Orta Avrupa'da asırlarca ağızdan ağıza dolaşan efsaneler türemiştir. Attila; romancılara, ressamalara, heykeltıraşlara konu olmuş; hakkında en çok kitap yazılan şahsiyetlerden biri olmuştur.

Bu bilgide, Attila ile ilgili aşağıdakilerin hangisinden söz edilmiştir?

- A) Siyasi faaliyetlerinden
- B) Askerî başarılarından
- C) Bilim ve eğitime bulunduğu katkıdan
- D) Edebî ve sanatsal alana etkisinden

5. "Türk Böğü Kağan için, Türk Bilge Kağan için, Kapgan Kağan için gece uyumadım, gündüz oturdum. Kızıl kanımı dökerek, kara terimi akıtarak işimi gücümü hep ona verdim. Öncüleri yine uzaklara gönderdim; hisarları, gözcüleri çoğalttım; kağanım ile seferlere çıktık..."

Tonyukuk Yazıtı'nda geçen bu ifadelerle göre, Kök Türklerin başveziri olan Tonyukuk ile ilgili aşağıdakilerden hangisine ulaşılabılır?

- A) Ülke topraklarını genişlettiğine
- B) Kağanın tüm yetkilerine sahip olduğuna
- C) Devletine hizmet etmek için çok çalıştığına
- D) Komşu devletlerle diplomatik ilişkiler kurduğuna

6. Bizans İmparatorlarına paralı asker olarak hizmet etmişlerdir. Paralı asker olarak görev yaparlarken Selçuklu-Bizans savaşlarında akrabaları olan Selçukluların tarafına geçerek Selçukluların Anadolu'yu ele geçirmelerine yardımcı olmuşlardır.

Bu bilgiler, aşağıdaki Türk topluluklarından hangisine aittir?

- A) Uzlar
- B) Bulgarlar
- C) Macarlar
- D) Sabirler

1. OTURUM

7. Hazar Kağanlığı'nın toprakları üzerinde Müslüman, Hristiyan, Musevi ve eski Türk dininden insanlar beraberce yaşamışlardır. Hazar hakanları, din işlerine karışmamış ve şehirlerde bütün insanların serbestçe kendi ibadetlerini yapmalarını sağlamışlardır.

Bu durum, Hazarlar'da aşağıdakilerden hangisinin varlığına kanıt olarak gösterilebilir?

- A) Ekonomik çeşitliliğin
- B) Sanatsal zenginliğin
- C) Hoşgörü anlayışının
- D) Yazılı hukuk kurallarının

8. Kendisini Türk dili araştırmalarına adanmıştır. On beş yıl boyunca Türklerin yaşadığı bütün illeri, şehirleri, obaları, dağları ve çölleri dolaşmıştır. En büyük eseri Divanü Lügati't-Türk'tür.

Bu bilgiler aşağıdakilerden hangisine aittir?

- A) Yusuf Hemedanî
- B) Kaşgarlı Mahmut
- C) Ahmet Yesevî
- D) Ebu Reyhan Birunî

9. Karahanlılarda kullanılan ünvanlar ve idari sistem tıpkı Kök Türk Kağanlığı'nın tekrarı gibidir. Karahanlı yöneticilerinin kullandıkları "Kara, Arslan, Tonga ve Buğra" ünvanlarının kökeni Kök Türk Dönemi'ne kadar inmektedir.

Buna göre, Karahanlılar ile ilgili aşağıdakilerden hangisine ulaşılabilir?

- A) Ülke idaresinde merkezî otoritenin korunmasına önem vermişlerdir.
- B) Yöneticiler, kazandıkları başarılar sonucu çeşitli ünvanlar almışlardır.
- C) Kök Türkleri yönetmiş olan hanedan tarafından kurulmuştur.
- D) Eski Türk devlet geleneğindeki uygulamayı devam ettirmişlerdir.

10. Selçukluların, Gaznelileri yenerek Horasan'a hâkim olmalarını sağlayan ve Anadolu'ya akın yapmalarını kolaylaştıran savaş aşağıdakilerden hangisidir?

- A) Malazgirt
- B) Katvan
- C) Dandanakan
- D) Yassıçemen

11. Türkiye Selçuklu Sultanı

I. Gıyasettin Keyhüsrev'in, hasta olan kız kardeşinin vasiyeti üzerine Kayseri'de yaptırdığı mimari eser aşağıdakilerden hangisidir?

- A) Gök Mescit
- B) Karatay Medresesi
- C) Mümin Hatun Türbesi
- D) Gevher Nesibe Darüşşifası

(222) SAĞLIK BİLGİSİ VE TRAFİK KÜLTÜRÜ – 2

1. Trafikte;

- yayaların karşıya geçişini kolaylaştıran,
- engelli bireyler için ayrılmış yerleri işgal etmeyen,
- diğer sürücülere karşı anlayışlı davranan

bir sürücü için, aşağıdakilerden hangisine önem verdiği söylenemez?

- A) Empatiye
- B) Hoşgörüye
- C) Tahammüle
- D) Benmerkezciliğe

2. "Ehliyetini yeni almış bir sürücü, yeşil ışık yandığında arabasını stop ettirip trafiğin bir süre aksamasına sebep olmuştur."

Bu gibi durumlarla karşılaşan diğer sürücülerin, aşağıdakilerden hangisini yapması doğru olur?

- A) Sinirlenerek korna çalması
- B) Empati kurup sabırlı olması
- C) El kol hareketleri yapması
- D) Araca yaklaşip rahatsız etmesi

3. Trafik kurallarına dikkat eden bir sürücü, otomobiliyle 120 km/saat hızla seyretmektedir.

Bu sürücü, aşağıdaki yollardan hangisini kullanmaktadır?

- A) Otoyolu
- B) Çift yönlü kara yolunu
- C) Bölünmüş kara yolunu
- D) Yerleşim yeri içindeki kara yolunu

4. I. İnsan
II. Aracın beygir gücü
III. Yol ve trafik yoğunluğu
IV. Çevre ve iklim koşulları

Numaralanmış faktörlerden hangileri trafik kazası nedenlerindedir?

- A) II ve III
- B) I, II ve III
- C) I, III ve IV
- D) II, III ve IV

5. Toplu taşıma araçlarında güvenli ve huzurlu bir yolculuk için, aşağıdaki davranışlardan hangisinin yapılması yanlıştır?

- A) Toplu taşıma araçlarına sırayla binilmesi ve araçlardan sırayla inilmesi
- B) Belirlenen duraklarda araçtan inilmesi veya araca binilmesi
- C) Sürücü ve yolcuları rahatsız edecek şekilde yüksek sesle konuşulması
- D) Günlük temizlik ve hijyene dikkat edilmesi

6. Okul servis araçlarında, aşağıdakilerden hangisini yapmak yasaktır?

- A) Engellilere yer vermek
- B) Araç tamamen durunca ayağa kalkmak
- C) Araç durunca kapıyı açmak
- D) Ayakta yolculuk yapmak

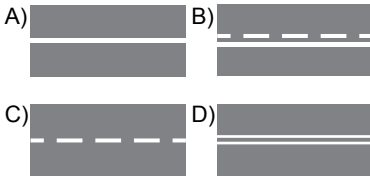
1. OTURUM

7. Sürücülerin, araç kullanırken insan ve çevreye zarar vermemek için dikkat etmeleri gereken davranışlar vardır.

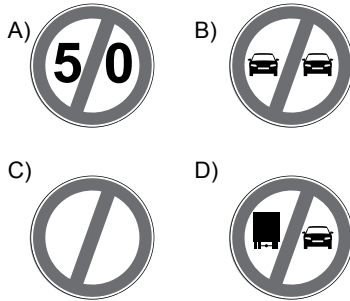
Buna göre, aşağıdakilerden hangisi bu davranışlara örnek gösterilemez?

- A) Seyir hâlindeyken cep telefonu kullanmak
- B) Herkesin hata yapabileceğini düşünerek hareket etmek
- C) Hız sınırlamalarına dikkat etmek
- D) Trafik işaret ve levhalarına uymayı bir yaşam biçimi olarak benimsemek

8. Aşağıdaki yol çizgilerinden hangisinde, sadece bir yöndeki araçlar geçme yapabilir?



9. Aşağıdaki trafik işaret levhalarından hangisi "Bütün yasaklama ve kısıtlamaların sonu" anlamındadır?



10. Türkiye'de sürücü belgesi alabilmek için belirlenen en düşük yaş sınırı aşağıdakilerden hangisidir?

- A) 14 B) 15 C) 16 D) 17

11. Aşağıdakilerden hangisi, sürücülerin kış aylarında almaları gereken önlemlerden biri değildir?

- A) Kış lastiği taktırmaları
- B) Antifriz seviyesini kontrol ettirmeleri
- C) Araçlarda halat, takoz ve kar zinciri bulundurmaları
- D) Polen filtresini değiştirmeleri

(244) İNGİLİZCE – 5

1-9. sorularda boş bırakılan yere/yerlere uygun gelen kelime ya da ifadeyi işaretleyiniz.

1. Alan : Tim phoned while you were out.

Brian : Alright. I - - - - him back after I do my homework.

- A) call B) called
- C) will call D) was calling

2. When I was a child, I - - - - .

- A) ride a bicycle
- B) am drawing pictures
- C) will help my mother
- D) used to live in a lovely town

3. Photography is my hobby and I'm really - - - - of it. I like taking photos of people and nature.

- A) fond B) good
- C) gifted D) keen

4. My Physical Education teacher - - - - and supported me to play basketball, so I've become a good basketball player.

- A) solved B) encouraged
- C) arrived D) refused

5. My biggest - - - - is about my education. If I had been more hardworking during my high school years, I could have studied at a better university.

- A) prediction B) regret
- C) wish D) plan

6. If I had known that my friend had stayed in the hospital, I - - - - him.

- A) would visit
- B) should visit
- C) should have visited
- D) would have visited

7. Emre had never - - - - a native English speaker before he visited London.

- A) met B) began
- C) threw D) built

8. I - - - - off the radio after I had listened to it for three hours.

- A) turn B) turned
- C) will turn D) am turning

9. While I was waiting for the bus I - - - - .

- A) will read a book
- B) listen to music
- C) saw one of my friends
- D) have called my sister

10. Matthew always tells the truth, plans his work efficiently and produces original ideas. He never deceives people.

Bu metne göre, aşağıdaki kişilik özelliklerinden hangisi Matthew için söylenemez?

- A) Adaptable B) Honest
- C) Creative D) Organized

1. OTURUM

11. My name is Mike. I enjoy playing basketball and I'm in the school basketball team. Also, I enjoy jogging in the park on Saturday mornings. I like watching football matches on Sunday evenings.

Bu metinde Mike aşağıdakilerin hangisinden bahsetmiştir?

- A) Family members
- B) Friends
- C) Future plans
- D) Interests

(244) ALMANCA – 5

1-8. sorularda boş bırakılan yere/yerlere uygun gelen kelime ya da ifadeyi işaretleyiniz.

1. **Im Hotel haben wir zuerst die Koffer - - - - . (Boşaltmak)**

- A) ausgepackt
- B) auspacken
- C) eingepackt
- D) einpacken

2. **A: Warum hat sich Karin - - - - ?
B: Weil sie den Zug verpasst hat.**

- A) vergessen
- B) verspätet
- C) verloren
- D) verstehen

3. **Sie können dieses Hotel über das Reisebüro - - - - .**

- A) buche
- B) bucht
- C) buchst
- D) buchen

4. **Ich wohne immer noch - - - - meinen Eltern.**

- A) vom
- B) bei
- C) von
- D) beim

5. **Die Mietpreise steigen. In den Großstädten werden jedes Jahr die Mieten - - - - .**

- A) billige
- B) teuerste
- C) teurer
- D) billigste

6. Ich heiße Bettina Keller. Ich bin Malerin. Diese Wohnung ist günstig.

Sie sagt, - - - - .

- A) dass die Wohnung sehr teuer ist
- B) dass diese Wohnung billig ist
- C) dass diese Wohnung zu klein ist
- D) dass diese Wohnung zu groß ist

7. **Familie Aydoğan - - - - ihre neue Wohnung - - - - .**

- A) stellt / hin
- B) zieht / aus
- C) räumt / auf
- D) richtet / ein

8. **In Olympiaspiele bekommen die Sieger eine - - - - .**

- A) goldene Medaille
- B) Fussballmannschaft
- C) Klassenfoto
- D) Tennisspiel

9. **Welches ist keine Mannschaftssportart?**

- A) Fußball
- B) Basketball
- C) Ringen
- D) Eishockey

10. **“Wohnungsanzeige” sözcüğünün Türkçe karşılığı aşağıdakilerden hangisidir?**

- A) Ev ilanı
- B) Kira sözleşmesi
- C) Isınma bedeli
- D) Kira bedeli

11. **Was steht nicht in einer Wohnungsanzeige?**

- A) Wie viel die Miete kostet.
- B) Wie viele Zimmer die Wohnung hat.
- C) Wie viel die Nebenkosten sind.
- D) Wer in der Wohnung zur Zeit wohnt.

(244) FRANZISZCA – 5

1-7. sorularda boş bırakılan yere/yerlere uygun gelen kelime ya da ifadeyi işaretleyiniz.

1. **Paul : - - - - ?**

François : Oui, elle y va.

- A) Sarah vient du cinéma
- B) Léa va-t-elle au cinéma
- C) Hugo vient-il de Lyon
- D) Alex va-t-il à Porto

2. **Si j' avais un système immunitaire fort, je n' - - - - aucune maladie.**

- A) aurait
- B) avais
- C) aurais
- D) avait

3. **Le ministre de l'Environnement de la France a proposé un plan - - - - l'augmentation du nombre de parcs nationaux.**

- A) pendant
- B) depuis
- C) avant
- D) pour

4. **France n'est pas - - - - grand pays de l'Europe.**

- A) la plus
- B) aussi
- C) autant
- D) le plus

1. OTURUM

5. Il est impératif de - - - - sa ceinture attachée pendant le vol.

- A) gardez
- B) garder
- C) garde
- D) gardent

6. Faire une activité physique quotidienne - - - -.

- A) a toujours des risques pour la santé
- B) ne diminue pas le stress
- C) est bonne pour la santé
- D) provoque la sous-nutrition

7. Le Fonctionnaire : 9-1-1, j'écoute.

Un homme : Ma fille - - - - dans les escaliers.

Le Fonctionnaire : Est-il conscient ?

Un homme : Je ne comprends pas.

- A) es tombée
- B) est tombée
- C) as tombé
- D) a tombé

8. I. Et ta fille, Ça va mieux ?

II. Je vais bien, merci.

III. Oui, elle va sortir de l'hôpital dans dix jours.

IV. Bonjour, comment allez-vous ?

Karşılıklı konuşmanın doğru sıralanışı aşağıdakilerden hangisidir?

- A) I - II - III - IV
- B) I - II - IV - III
- C) IV - II - I - III
- D) IV - III - II - I

9.

Le malade : Je dois retourner au travail demain.

Le médecin : Vous ne pouvez pas travailler comme ça monsieur. Le travail peut attendre quelques jours mais la santé non. Je vous conseille de ne pas sortir du lit 4 jours et de vous reposer jusqu'à vendredi.

Bu metne göre, aşağıdakilerden hangisi doğrudur?

- A) Le médecin demande au malade de rester au lit.
- B) Le malade veut bien reposer jusqu'à vendredi.
- C) Le malade préfère de ne pas sortir du lit quatre jours.
- D) Le médecin conseille au malade de retourner au travail demain.

10.

Bordeaux : Nathalie a trois enfants. Elle cherche sa mère dans la région de Médoc. Tout a commencé par un message. Elle a publié son message sur les réseaux sociaux. Ce message est partagé plusieurs fois. Rapidement elle a trouvé l'adresse de sa mère. Heureuse et surprise ; elle a parlé au téléphone à sa mère. C'est la première fois dans sa vie en 45 ans.

Bu metne göre, aşağıdakilerden hangisi doğrudur?

- A) Grâce aux réseaux sociaux, elle retrouve sa mère.
- B) Pour la première fois, elle a trouvé ses enfants en quarante cinq ans.
- C) Heureusement, Nathalie retrouve sa mère en trente ans.
- D) Sa mère Médoc téléphone à sa fille Nathalie.

11.

Salut !

Je m'appelle Camille. J'ai 25 ans. Je vis en Belgique. Je suis journaliste. Je suis blonde et mince. J'ai des yeux bleus. Ma mère et mon père ont 70 ans. Mon frère Jacques 40 ans. Il est marié avec une allemande depuis 14 ans. Ils n'ont pas d'enfant.

Bu metne göre, aşağıdakilerden hangisi doğrudur?

- A) Jacques et sa femme ont quarante ans.
- B) Camille vit en Belgique depuis quatorze ans.
- C) Camille n'a pas de neveu et de nièce.
- D) Le père de Camille est soixante ans.

(421) FİZİK – 1

1. Atomun yapısındaki proton ve elektronların sahip oldukları elektrik yükleri ve etkileşimlerini inceleyen fiziğin alt dalı aşağıdakilerden hangisidir?

- A) Mekanik
- B) Elektrik
- C) Termodinamik
- D) Optik

2. Aşağıdaki büyüklüklerden hangisi temel büyüklüktür?

- A) Uzunluk
- B) Hacim
- C) Basınç
- D) Kuvvet

3. Aşağıdaki büyüklüklerden hangisi skaler büyüklüktür?

- A) Kuvvet
- B) İvme
- C) Hız
- D) Özkütle

4. Hacmi 10 dm³ olan suyun litre cinsinden değeri kaçtır?

- A) 0,1
- B) 1
- C) 10
- D) 100

5. Özkütlesi 1 g/cm³ olan bir bardak suyun yarısı döküldükten sonra bardakta kalan suyun özkütlesi kaç g/cm³ tür?

- A) 0,01
- B) 0,1
- C) 1
- D) 1,2

1. OTURUM

6. Su damlalarının yaprağa veya cama yapışmasını sağlayan kuvvet aşağıdakilerden hangisi ile açıklanır?

- A) Kohezyon B) Adezyon
C) Kılcallık D) Yüzey gerilimi

7. Yüzey gerilimi ile ilgili,

- I. Tüm maddelerin yüzey gerilimi eşittir.
II. Sıcaklık yüzey gerilimini değiştirir.
III. Suya tuz eklenirse suyun yüzey gerilimi artar.

yargılarından hangileri doğrudur?

- A) Yalnız I B) Yalnız II
C) I ve II D) II ve III

8. Ahmet doğuya doğru 100 m gidip duruyor. Daha sonra batıya doğru 80 m gidiyor.

Buna göre, Ahmet'in yer değiştirmesi kaç m'dir?

- A) 180 B) 90 C) 20 D) 10

9. Bir bisikletlinin doğrusal bir yol boyunca yaptığı yer değiştirmeler tablo da verilmiştir.

x(m)	0	10	20	30
t(s)	0	10	20	30

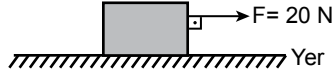
Buna göre, bisikletlinin 30 saniye boyunca ortalama sürati kaç m/s'dir?

- A) 1 B) 1,5
C) 2 D) 2,5

10. Aşağıdakilerden hangisi temas gerektirmeyen kuvvet etkisiyle gerçekleşir?

- A) Hamurun yoğurulması
B) Mıknatısın demir tozlarını çekmesi
C) Paket lastiğinin gerilmesi
D) Futbolcunun topa ayağıyla vurması

11. Sürtünmesiz bir düzlemde kütlesi 5 kg olan cisme şekildeki gibi 20 N'luk kuvvet uygulanıyor.

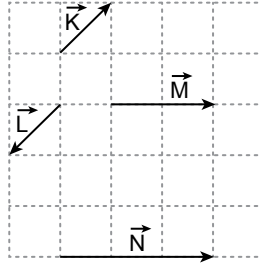


Buna göre, cismin ivmesi kaç m/s^2 dir?

- A) 15 B) 10 C) 5 D) 4

(425) SEÇMELİ FİZİK – 1

1. Şekilde K, L, M ve N vektörleri verilmiştir.



(Birim kareler eşit bölmelendirilmiştir.)

Buna göre, hangi vektörler birbirinin tersi vektörlerdir?

- A) K ve L B) K ve N
C) L ve M D) M ve N

2. Aynı doğrultu ve aynı yönde, hareket eden iki otomobilin hızları doğuya doğru 10 km/h ve 30 km/h'tir.

Buna göre, yavaş giden otomobilin içindeki birisi, hızlı giden otomobilin hızını ve yönünü nasıl görür?

- A) 20 km/h batıya
B) 20 km/h doğuya
C) 40 km/h batıya
D) 40 km/h doğuya

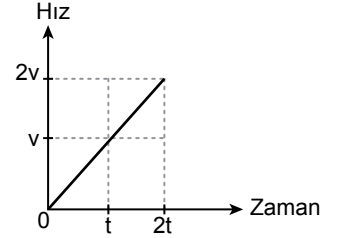
3. Şekilde 3 kg kütleli tahta blok ile yüzey arasındaki sürtünme katsayısı 0,2'dir.



Buna göre, bloğu hareket ettirebilecek yatay kuvvet en az kaç N olmalıdır? ($g = 10 \text{ N/kg}$)

- A) 9 B) 8 C) 6 D) 5

4. Doğrusal bir yolda düzgün hâlden harekete başlayan bir araca ait hız-zaman grafiği şekildeki gibidir.



Buna göre, 0-t aralığında yer değiştirme miktarı kaç v.t'dir?

- A) 0,5 B) 1 C) 1,5 D) 2

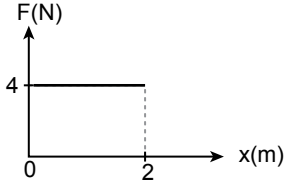
5. Bir kayakçı, kayak pistinde 30 m/s hıza ulaştıktan sonra atlama noktasından atlıyor. Atladığı noktadan yatay olarak 120 m ilerideki bir noktaya iniş yapıyor.

Buna göre, kayakçı pistten atladıktan kaç saniye sonra yere iner? (Sürtünmeler önemsenmiyor.)

- A) 1 B) 2 C) 3 D) 4

1. OTURUM

6. Sürtünmesiz yatay bir düzlemde durmakta olan bir cisme yatay doğrultuda uygulanan kuvvetin yer değiştirmeye bağlı grafiği şekildeki gibidir.



Buna göre, cisim 2 m yer değiştirdiğinde yapılan iş kaç N.m'dir?

- A) 4 B) 6 C) 8 D) 10

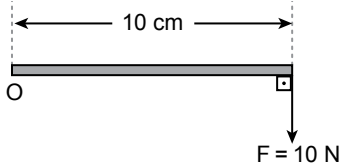
7. Çizgisel momentum ile ilgili,

- I. Cismin kütlesine bağlıdır.
II. Cismin çizgisel hızına bağlıdır.
III. Alınan yola bağlıdır.

yargılarından hangileri doğrudur?

- A) Yalnız I B) I ve II
C) II ve III D) I, II ve III

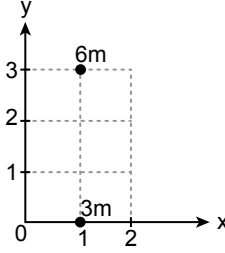
8. O noktası etrafında dönebilen 10 cm uzunluğundaki çubuğa şekildeki gibi 10 N'luk kuvvet etki ediyor.



O noktasına göre çubuğa uygulanan tork kaç N.m'dir?

- A) 100 B) 50 C) 10 D) 1

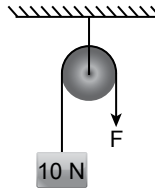
9. Şekildeki koordinat sisteminde 3m ve 6m kütleli cisimler bulunmaktadır.



Buna göre, bu cisimlerin oluşturduğu sistemin ağırlık merkezi (x, y) aşağıdakilerden hangisidir?

- A) (2, 1) B) (1, 1)
C) (1, 3) D) (1, 2)

10. Sürtünmenin önemsenmediği şekildeki 10 N ağırlığındaki bir cisim F kuvveti ile dengededir.



Buna göre, F kuvveti kaç N'dur?

- A) 20 B) 10 C) 5 D) 2

11. Birden fazla sabit ve hareketli makara kullanılarak oluşturulan ve makaralar arasında aynı ipin kullanıldığı basit makine aşağıdakilerden hangisidir?

- A) Pense
B) Kaldıraç
C) Palangalar
D) Makas

(432) KİMYA – 2

1. Bazı elementlerin periyodik sistemde buldukları gruplar tabloda verilmiştir.

1A	2A	5A	6A	7A
H	Ca	N	O	F
K			S	

Buna göre, aşağıdaki Lewis formüllerinden hangisinin gösterimi yanlıştır?

- A) $\text{Ca}^+ : \ddot{\text{O}}^-$ B) $\text{K}^+ : \ddot{\text{F}}^-$
C) $\begin{array}{c} \cdot \cdot \\ \cdot \cdot \\ \text{H} \cdot \cdot \\ \cdot \cdot \end{array}$ D) $\text{H} : \ddot{\text{N}} : \text{H}$
 H H H

2. Aşağıdaki bileşiklerden hangisinin adı doğrudur?

- A) Na_2SO_4 : Sodyum oksit
B) NH_4NO_3 : Azot nitrat
C) K_3PO_4 : Krom fosfat
D) CaCO_3 : Kalsiyum karbonat

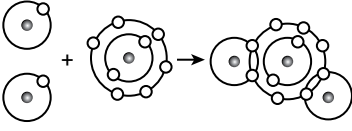
3. Katı hâldeki bir elementin, kendi atomları arasında serbest hareket edebilen elektronları sayesinde oluşan elektrostatik çekim kuvvetlerine ---- denir. Örneğin katı hâlde iken ---- tanecikleri arasında bu çekim kuvveti bulunur.

Bu metinde boş bırakılan yerlere getirilmesi gerekenler aşağıdakilerin hangisinde sırasıyla verilmiştir?

- A) iyonik bağ - C
B) apolar kovalent bağ - O_2
C) hidrojen bağı - H_2
D) metalik bağ - Na

1. OTURUM

4. Görselde iki farklı atomun bileşik oluşumu katman elektron dağılımı kullanılarak modellenmiştir.



Buna göre, atomlar arasında oluşan molekül içi bağa verilen ad aşağıdakilerden hangisidir?

- A) Apolar kovalent bağ
B) Polar kovalent bağ
C) İyonik bağ
D) Hidrojen bağı
5. Bağ enerjileri (BE_1 , BE_2 ve BE_3) tepkime denkleminde belirtilen üç reaksiyon verilmiştir.
- I. $MgO(k) + BE_1 \rightarrow Mg^{2+}(g) + O^{2-}(g)$
II. $CH_3OH(s) + BE_2 \rightarrow CH_3OH(g)$
III. $Ar(s) + BE_3 \rightarrow Ar(g)$

Buna göre, numaralanmış reaksiyonların hangilerinde bağ enerjisi 40 kJ/mol değerinden fazladır?

- A) Yalnız I B) Yalnız III
C) I ve II D) II ve III
6. Aşağıdaki kristal katı türü-örnek eşleştirmelerinden hangisi doğrudur?

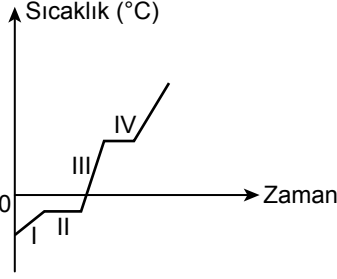
- A) Moleküler katı – I_2
B) İyonik katı – Au
C) Kovalent katı – MgF_2
D) Metalik katı – C

7. • 1 mol hidrojen gazı (H_2) 2 g'dır.
• 1 mol amonyak gazı (NH_3) 17 g'dır.
• 1 mol oksijen gazı (O_2) 32 g'dır.
• 1 mol su buharı (H_2O) 18 g'dır.

Buna göre, aşağıdakilerden hangisi $6,02 \times 10^{23}$ tane molekül içerir?

- A) 1 gram H_2
B) 8 gram O_2
C) 17 gram NH_3
D) 32 gram H_2O

8. Saf bir maddeye ait ısınma grafiği verilmiştir.



Buna göre, bu saf maddeyle ilgili aşağıdakilerden hangisi doğrudur?

- A) I. bölgede sadece katı hâlde bulunur.
B) II. bölgede kinetik enerjisi artmaktadır.
C) III. bölgede hem sıvı hem de katı hâli birlikte görülür.
D) IV. bölgede yoğunlaşma gerçekleşmektedir.

9. Aşağıdakilerden hangisi asit yağmurlarının oluşum tepkimelerinden biridir?

- A) $CaO + H_2O \rightarrow Ca(OH)_2$
B) $SO_3 + H_2O \rightarrow H_2SO_4$
C) $NH_3 + H_2O \rightarrow NH_4OH$
D) $2Na + 2H_2O \rightarrow 2NaOH + H_2$

10. Bir oksit bileşiği A_xO_y şeklindedir. A, bir ametal elementini temsil etmektedir. Elementlerin sayısı ise x ve y ile gösterilmiştir. Bazı ametal oksitler hava kirliliğine neden olmaktadır.

Buna göre, aşağıdaki elementlerden hangisinin hava kirliliğine neden olan oksitli bir bileşiği vardır?

- A) Ca B) He C) K D) N

11. Su kaynakları ile ilgili aşağıdakilerden hangisi doğrudur?

- A) Dünyadaki su kaynaklarının en büyük yüzdesi bataklıklara aittir.
B) Okyanuslar, tatlı su kaynaklarının çoğunluğunu oluşturur.
C) Nehirler, tatlı yüzey suları içinde en küçük paya sahiptir.
D) Denizler, tatlı su kaynakları sınıfında yer alır.

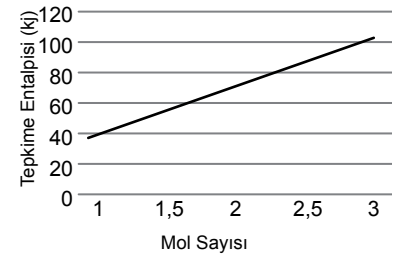
(436) SEÇMELİ KİMYA – 2

1. $CH_4 + 2O_2 \rightarrow CO_2 + 2H_2O$

Bu tepkime ile ilgili aşağıdakilerden hangisi yanlıştır?

- A) Ekzotermiktir.
B) Kimyasaldır.
C) ΔH değeri pozitifdir.
D) Yanma tepkimesidir.

2. Azot ve oksijen gazı arasında gerçekleşen bir tepkimede oksijen gazının miktarı ve tepkime entalpisi arasındaki ilişkiyi incelemek için bir deney tasarlanmıştır. Bu deneyde elde edilen verilerle bilgisayarda elektronik tablolama programı kullanılarak şekildedeki grafik oluşturulmuştur.

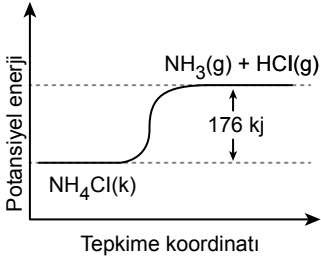


Buna göre, bu deney sonucunda aşağıdakilerden hangisine ulaşılabılır?

- A) Oksijen gazı katalizör olarak etki etmiştir.
B) Tepkime entalpisi madde miktarı ile ters orantılıdır.
C) Madde miktarı arttıkça tepkime entalpisi de aynı oranda artar.
D) Tepkimedeki entalpi artışı, tepkimenin ekzotermik olduğunu gösterir.

1. OTURUM

3. Bir kimyasal tepkimeye ait potansiyel enerji-tepkime koordinatı grafiği verilmiştir.



Buna göre, aşağıdakilerden hangisi söylenebilir?

- A) $\Delta H_{\text{tepkime}} = -176$ kJ şeklindedir.
 B) Girenlerin potansiyel enerjisi ürünlerinkinden büyüktür.
 C) Tepkime ekzotermik bir tepkimedir.
 D) $\text{NH}_4\text{Cl}(k) + 176 \text{ kJ} \rightarrow \text{NH}_3(g) + \text{HCl}(g)$ tepkimesi gerçekleşir.

4. $\text{N}_2(g) + 3\text{H}_2(g) \rightarrow 2\text{NH}_3(g)$ tepkimesinin entalpisi, bağ enerjileri kJ cinsinden, eşitlikteki gibi hesaplanmıştır.

$$\Delta H^{\circ}_{\text{tepkime}} = (946 + 3 \times 436) - (2 \times 3 \times 391)$$

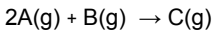
$$= (946 + 1308) - 2346$$

$$= -92 \text{ kJ}$$

Buna göre, aşağıdakilerden hangisi doğrudur?

- A) Oluşan bağların toplam enerjisi 92 kJ'dür.
 B) H – H bağının enerjisi 436 kJ'dür.
 C) 946 kJ değerinde bir bağ oluşmuştur.
 D) Kırılan bağların toplam enerjisi 2346 kJ'dür.

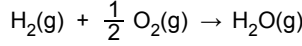
5. Tek basamakta gerçekleşen kimyasal bir tepkimede maddeler A, B ve C ile gösterilmektedir.



Buna göre, tepkimede A'nın harcanma hızı 4 mol/L.s olduğuna göre, B'nin mol/L.s cinsinden harcanma hızı kaçtır?

- A) 16 B) 8 C) 2 D) 1

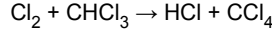
6. Sabit hacimli ve kapalı bir kaptaki tek basamakta gerçekleşen



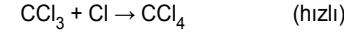
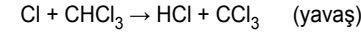
tepkimesinin hızını arttırmak için aşağıdaki işlemlerden hangisi tek başına yapılmalıdır?

- A) He(g) eklemek
 B) $\text{H}_2(g)$ eklemek
 C) Sıcaklığı azaltmak
 D) İnhibitör eklemek

7. Sabit sıcaklıkta tüm basamakları gaz hâlinde gerçekleşen



tepkimesi aşağıdaki ara basamaklardan oluşmaktadır.



Buna göre, tepkimenin hız bağıntısı hangisidir?

- A) Hız = $k \times [\text{Cl}_2] \times [\text{CHCl}_3]$
 B) Hız = $k \times [\text{Cl}_2]$
 C) Hız = $k \times [\text{Cl}] \times [\text{CHCl}_3]$
 D) Hız = $k \times [\text{CCl}_3] \times [\text{Cl}]$

8. I. $\text{Fe}(k) + \text{CO}_2(g) \rightleftharpoons \text{FeO}(k) + \text{CO}(g)$

$$K_p = \frac{P_{\text{CO}}}{P_{\text{CO}_2}}$$

- II. $\text{N}_2(g) + 3\text{H}_2(g) \rightleftharpoons 2\text{NH}_3(g)$

$$K_d = [\text{N}_2] [\text{H}_2]^3$$

- III. $\text{CO}_2(g) + \text{H}_2\text{O}(s) \rightleftharpoons \text{H}_2\text{CO}_3(aq)$

$$K_d = \frac{[\text{H}_2\text{CO}_3]}{[\text{CO}_2]}$$

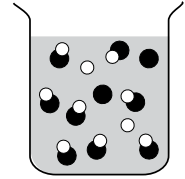
Numaralanmış tepkimelerden hangilerinin denge bağıntısı doğrudur?

- A) Yalnız I B) Yalnız II
 C) I ve III D) I, II ve III

9. $\text{PCl}_5(g) \rightleftharpoons \text{PCl}_3(g) + \text{Cl}_2(g)$ tepkimesi için K_p ile K_d arasındaki bağıntı aşağıdakilerden hangisidir?

- A) $K_p = K_d RT$
 B) $K_p = \frac{K_d}{(RT)^2}$
 C) $K_p = \frac{K_d}{RT}$
 D) $K_p = K_d (RT)^2$

10. Bir asidin suda çözünmesi sonucu oluşan tanecikleri, şekildedeki gibi modellenmiştir. Modelde su molekülüne ait tanecikler gösterilmemiştir.



Buna göre, aşağıdaki asitlerden hangisinin sulu çözeltisi bu modeldeki gibi gösterilebilir?

- A) HNO_3 B) HCl
 C) H_2SO_4 D) HF

11. Tampon çözeltiler, zayıf asit ile onun konjuge bazını veya zayıf baz ile onun konjuge asidini içeren çözeltilerdir.

Buna göre, aşağıdaki tanecik çiftlerinden hangisi tampon çözelti oluşturur?

- A) $\text{HCN} - \text{CN}^-$
 B) $\text{HClO}_4 - \text{Cl}^-$
 C) $\text{NH}_3 - \text{N}^{3-}$
 D) $\text{NaOH} - \text{Na}^+$

1. OTURUM

(441) BİYOLOJİ – 1

1. Canlıların tamamı için aşağıdakilerden hangisi söylenemez?
- A) Büyüme ve gelişme gerçekleştirirler.
B) Soylarını devam ettirmek için ürerler.
C) Yaşadıkları çevreye uyum sağlarlar.
D) Kendi besinlerini kendileri üretirler.
2. Su ile ilgili aşağıdakilerden hangisi yanlıştır?
- A) Enzimlerin çalışması için gereklidir.
B) Sindirim tepkimelerinde üretilir.
C) İyi bir çözücüdür.
D) Etkili soğutma sağlar.
3. İnsan midesinde sindirim enzimlerinin çalışabilmesi için uygun pH aralığı kaç olmalıdır?
- A) 2 – 3 B) 6 – 8
C) 9 – 10 D) 11 – 13
4. Aşağıdakilerden hangisi 5 karbonlu (C) monosakkaritlere örnektir?
- A) Gliseraldehit
B) Fruktoz
C) Galaktoz
D) Riboz
5. Nötral yağların sentezi sırasında yağ asitlerinin gliserole bağlanması olayı aşağıdakilerden hangisidir?
- A) Hidroliz
B) Yoğunlaşma
C) Esterleşme
D) Taşıma

6. Kimyasal reaksiyonların gerçekleşmesi için gerekli olan minimum enerji miktarının adı aşağıdakilerden hangisidir?

- A) İnhibitör
B) Aktivasyon enerjisi
C) Buharlaşma ısısı
D) Sıcaklık

7. Ökaryot bir hücre, prokaryot bir hücreden aşağıdakilerden hangisini bulundurması bakımından farklıdır?

- A) Ribozom
B) Çekirdek
C) Hücre zarı
D) DNA

8. İnsanın hücre zarı ile ilgili aşağıdakilerden hangisi yanlıştır?

- A) Esnek bir yapıya sahiptir.
B) Madde alışverişini düzenler.
C) Hücreler arası iletişimi sağlar.
D) Nükleik asit içerir.

9. İnsana ait aşağıdaki hücrelerden hangisinde lizozom organelinin nispeten daha fazla üretilmesi beklenir?

- A) Sinir hücresi
B) Kas hücresi
C) Akyuvar hücresi
D) Deri hücresi

10. mRNA'ya bağlanmış hücresel bir yapı şekilde verilmiştir.



- Bu yapı aşağıdakilerden hangisidir?

- A) Mitokondri B) Ribozom
C) Golgi aygıtı D) Sentrozom

11. Basit difüzyon olayı ile ilgili aşağıdakilerden hangisi doğrudur?

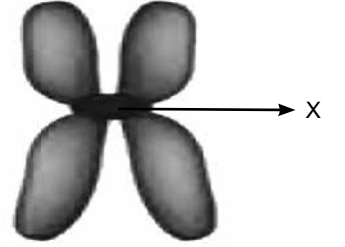
- A) Büyük polimerlerin zardan geçiştir.
B) Taşıyıcı proteinler görev alır.
C) Moleküller fosfolipit tabakadan geçer.
D) Geçiş için ATP enerjisi gereklidir.

(443) BİYOLOJİ – 3

1. Mitoz ile ilgili aşağıdakilerden hangisi doğrudur?

- A) Bal arılarında yumurta üretimini sağlar.
B) Ökaryot hücrelerde çoğalmayı sağlar.
C) Bir hücrelerde büyümeyi sağlar.
D) Bakterilerde çoğalmayı sağlar.

2. Hüresel bir yapı şekilde verilmiştir.



- Bu yapıda X ile gösterilen bölüm aşağıdakilerden hangisidir?

- A) Sentromer B) Sentirol
C) Çekirdekçik D) Hücre zarı

3. Aşağıdaki canlılardan hangisi ikiye bölünerek çoğalır?

- A) Çam ağacı B) Eğrelti otu
C) Bal arısı D) Bakteri

4. Üreme ana hücrelerinin kromozom sayısının yarıya inmesini aşağıdakilerden hangisi sağlar?

- A) Mitoz
B) Döllenme
C) Mayoz
D) Konjugasyon

1. OTURUM

5. Aşağıdaki canlı gruplarından hangisindeki canlılar, sadece eşeyli üreme ile çoğalır?

- A) Memeliler B) Bakteriler
C) Bitkiler D) Arılar

6. Bir ailenin ilk çocuklarının erkek, ikinci çocuklarının kız olma ihtimali kaçtır?

- A) 1/8 B) 1/6 C) 1/4 D) 1/2

7. Aşağıdakilerden hangisi rekombinasyon için doğrudur?

- A) Baskın alelin fenotipte görülmesidir.
B) Çeşitli sebeplerle yeni gen dizilimi oluşmasıdır.
C) İki karakter bakımından çaprazlamadır.
D) Canlının sahip olduğu genlerin toplamıdır.

8. Otozomal kalıtılan bir özellik için heterozigot anne ve babanın çocukları ile ilgili aşağıdakilerden hangisi söylenebilir?

- A) Kız çocukta görülme ihtimali fazladır.
B) Kız ve erkek çocukta görülme ihtimali eşittir.
C) Erkek çocukta görülme ihtimali fazladır.
D) Kız çocukta görülme ihtimali yoktur.

9. AaBBRrHh genotipli bireyin ABRh gametini oluşturma olasılığı kaçtır?

- A) 1/2 B) 1/4 C) 1/8 D) 1/16

10. Heterozigot sarı renkli ve düz tohum şekilli iki bezelyenin çaprazlanması sonucu aşağıdaki fenotiplerden hangisinin oluşma olasılığı en azdır?

(Sarı tohum rengi yeşil tohum rengine, düz tohum şekli buruşuk tohum şekline baskındır.)

- A) Sarı renkli ve düz tohum şekilli
B) Sarı renkli ve buruşuk tohum şekilli
C) Yeşil renkli ve düz tohum şekilli
D) Yeşil renkli ve buruşuk tohum şekilli

11. Aşağıdaki kan grubu genotiplerinden hangisinde aleller arasında heterozigot eş baskınlık durumu vardır?

- A) AO B) BO C) MN D) MM

(446) SEÇMELİ BİYOLOJİ – 2

1. İnsanın solunum sisteminde, oksihemoglobin oluşumu aşağıdaki organlardan hangisinin kılcak damarlarında gerçekleşir?

- A) Karaciğer
B) Akciğer
C) Böbrek
D) Beyin

2. İnsanın üriner sistemi aşağıdakilerden hangisini gerçekleştirir?

- A) Solunum gazlarının değişimini
B) Vücudun su ve tuz dengesinin korunmasını
C) Sindirim enzimlerinin salgılanmasını
D) Antikorların üretilmesini

3. Sağlıklı bir insanın idrarında aşağıdakilerden hangisi bulunmaz?

- A) Su B) Üre
C) Tuz D) Aminoasit

4. İnsan böbreğinin havuzcuğunda toplanan idrar aşağıdakilerden hangisi aracılığıyla idrar kesesine taşınır?

- A) Üretra B) Medulla
C) Üreter D) Nefron

5. İnsan embriyosunun doğuma kadar geliştiği yapı aşağıdakilerden hangisidir?

- A) Fallopi tüpü B) Yumurtalık
C) Rahim D) Epididimis

6. İnsanda doğumdan önce bebek ve anne arasında madde alışverişini sağlayan yapı aşağıdakilerden hangisidir?

- A) Vitellüs B) Plasenta
C) Vas deferens D) Folikül

7. Komüniteler ile ilgili aşağıdakilerden hangisi doğrudur?

- A) Bir popülasyonda birden çok komünite bulunabilir.
B) Ekosistemlerin birleşmesi ile oluşan büyük birimlerdir.
C) Birden çok ekosistemin kesişim alanlarıdır.
D) En az iki farklı tür içeren ekosistem birimleridir.

8. Aşağıdakilerden hangisi çayır ekosistemlerini etkileyen faktörlerden değildir?

- A) Sıcaklık B) Nem
C) Avcı sayısı D) Derinlik

9. Aşağıdaki canlılardan hangilerinin arasında mutualizm görülmez?

- A) Mantar ile alg
B) Anemon ile palyaço balığı
C) Ökse otu ile üzerinde yaşadığı ağaçlar
D) Baklagil ile azotu kullanan bakteriler

10. Aşağıdaki popülasyonların hangisinde kümeli dağılım görülür?

- A) Kurt sürüsü
B) Çam ormanı
C) Kum martısı
D) Karahindiba bitkisi

1. OTURUM

11. Aşağıdakilerden hangisi çevre direncinin artmasına neden olur?

- A) Birey sayısının azalması
- B) Yaşam alanının artması
- C) Besin miktarının azalması
- D) Dışa göçlerin artması

(465) TEMEL DİNİ BİL. – 1

1. Aile yapısı; inanç, ahlak, millî değerler, örf ve âdet yönünden ne kadar sağlamsa toplum da o kadar sağlam olur. Aile içi ilişkiler sağlam ve sağlıklı-lyrsa toplum da güçlü ve güvenli bir toplum olur.

Bu metinden aşağıdakilerden hangisine ulaşılabılır?

- A) Aile toplumun özünü oluşturur.
- B) Toplumda aile yapısı nikâh akdi üzerine kurulur.
- C) Çocuk yetiştirme konusunda eşler eşit sorumluluklara sahiptir.
- D) Ailenin saygınlığı ve mahremiyeti korunması gereken unsurlardandır.

2. Aşağıdakilerden hangisi aile birliğine zarar veren davranışlardan-
dır?

- A) Ben yerine biz anlayışına sahip olunması
- B) Aile mahremiyeti hassasiyetinin ortadan kalkması
- C) Evliliğin birlikte yaşama temennisi ile kurulması
- D) Tarafların karşılıklı hak ve sorumluluklarını yerine getirmesi

3. "...Muhakkak ki namaz hayâsızlıktan ve kötülükten alıkoyar..."

(Ankebût suresi, 45. ayet)

Bu ayetten aşağıdakilerin hangisine ulaşılabılır?

- A) Akıl ve irade ile iyi özelliklere sahip olunabileceğine
- B) İbadetlerin düzenli olarak yerine getirilmesi gerektiğine
- C) Peygamberlerin ahlaklı toplum oluşturmak amacıyla gönderildiğine
- D) Ahlak ile ibadetler arasında bağ bulunduğuna

4. Aşağıdakilerden hangisi toplumda yaşanan ahlaki yozlaşmanın nedenlerinden biridir?

- A) Aynı dünya görüşünün paylaşıldığı kişilerle manevi beraberlik kurulması
- B) Ailenin maddi ve manevi olarak çocuklarından sorumlu olması
- C) İletişim araçlarının fayda sağlama-yacak şekilde kullanılması
- D) Evlilikte eşlerin birbiri üzerinde haklarının olması

5. "Münafıklar hâkimiyeti ellerine alır almaz yeryüzünde fesat çıkarmaya, ekinleri tahrip edip nesilleri bozmaya çalışırlar..."

(Bakara suresi, 205. ayet)

**Bu ayette altı çizili ifade aşağıdaki-
lerden hangisi ile ilgilidir?**

- A) Mahremiyeti ihlal
- B) Bozgunculuk
- C) Yaralamak
- D) Haksız kazanç

6. İslam dini, toplum düzenini sağlamak için bazı ilkeler getirmiş ve önlemler almıştır. Bu sebeple can, mal, nesil, akıl ve din koruma altına alınmıştır.

Buna göre, aşağıdakilerden hangisi "yaşama hakkı" ile doğrudan ilişkilidir?

- A) Can
- B) Mal
- C) Akıl
- D) Din

7. Aşağıdakilerden hangisi alkol ve uyuşturucu bağımlılığının kişiye verdiği zararlardan biri değildir?

- A) Sağlık problemleri
- B) Aile içi huzursuzluk ve sorunlar
- C) İradenin istenilen şekilde kullanımı
- D) İnsanlar arası ilişkilerde başarısızlık

8. "Eli sıkı olma, büsbütün eli açık da olma. Sonra kınanır pişmanlık duyarsın."

(İsrâ suresi, 29. ayet)

Bu ayetten aşağıdakilerin hangisi çıkarılabilir?

- A) Helal kazanca önem verilmelidir.
- B) Sosyal düzen ve adalet sınırları gözetilmelidir.
- C) Toplumda güven ortamı oluşturulmalıdır.
- D) İktisadi konularda denge korunmalıdır.

9. Aşağıdaki hadislerden hangisi iş-
çinin sorumluluklarına örnek gösterilebilir?

- A) "İşçiye ücretini alın teri kurumadan ödeyiniz."
- B) "Allah, kul bir iş yapacağı zaman onu sağlam yapmasını ister."
- C) "Kim Allah'a ve ahiret gününe iman ediyorsa ya hayır söylesin ya da sussun."
- D) "Onlara güçlerinin yetmeyeceği işleri yüklemeyiniz. Şayet yüklerseniz onlara yardımcı olunuz."

10. İslam dinine göre, aşağıdakilerden hangisi kazancın sağlandığı helal yollardan biridir?

- A) Riba
- B) Miras
- C) İhtikâr
- D) Rüşvet

11. "Ey iman edenler! Mallarınızı aranızda karşılıklı rıza ile gerçekleştirdiğiniz ticaret yolu hariç batıl yollarla yemeyin..."

(Nisâ suresi, 29. ayet)

Bu ayette aşağıdakilerden hangisi tavsiye edilmektedir?

- A) Hibe
- B) İnfak
- C) Helal kazanç
- D) Karz-ı hasen

1. OTURUM

(479) SEÇMELİ MANTIK – 2

1. Aşağıdakilerin hangisinde birden fazla önerme eklemi kullanılmıştır?

- A) Gülşah ve Özge çalışırlarsa başa-rır.
B) Kadir yaramaz değildir.
C) Tekin ve Mehmet çalışkandır.
D) Semra, zeki ve çeviktir.

2. Bir bileşik önermede, önermenin tümünü etkileyen eklem aşağıdaki-lerden hangisidir?

- A) Eklem B) Ön bileşen
C) Art bileşen D) Ana eklem

3. "Mehmet duyarsız değildir." önerme-sindeki "değil" eklemine sembolik gösterimi aşağıdakilerden hangisi-dir?

- A) \wedge B) \vee C) \sim D) \rightarrow

4. " \wedge ", "ve" ekinin sembolü olduğuna göre aşağıdakilerden hangisi " $p \wedge q$ " şeklinde sembolleştirilen bir öner-me-dir?

- A) Nilgün yaramaz değildir.
B) Esra ve Emir çalışkandır.
C) Ankara Türkiye'nin başkentidir.
D) Selim müzik dinlemiştir veya kitap okumuştur.

5. Tikel evetleme (\vee) önermesinde bile-şik bir önermenin doğruluğu, bu bile-şik önermeyi oluşturan bileşenlerden en az birinin doğru olmasına bağlıdır.

Buna göre;

p	q	$p \vee q$
D	D	I
D	Y	D
Y	D	D
Y	Y	II

tabloda rakamlarla gösterilen yer-lere sırasıyla aşağıdakilerden han-gisi getirilmelidir?

- A) Y, Y B) Y, D
C) D, Y D) D, D

6. " $(p \wedge q) \vee (\sim p \wedge \sim q)$ " önermesiyle ilgili aşağıdakilerden hangisi doğru-dur?

- A) $(\sim p \wedge \sim q)$ önermesi ön bileşendir.
B) $(p \wedge q)$ önermesi art bileşendir.
C) Basit önermenin sembolleştirilmiş hâlidir.
D) Ana eklemi tikel evetlemedir.

7. Kendi içinde anlamlı olan ve daha küçük anlamlı birimlere ayrılmayan deyimlere - - - - denir.

Bu cümlede boş bırakılan yere ge-tirilmesi gereken kavram aşağıda-kilerden hangisidir?

- A) değişmez B) öncül
C) önerme D) çıkarım

8. Aşağıdakilerden hangisi özel değişmezlerdendir?

- A) Önerme eklemi
B) Ad değişmezleri
C) Niceleyiciler
D) Özdeşlik değişmezleri

9. Tüm yorumlamaları doğru olan öner-meye "totoloji" denir.

Buna göre, aşağıdaki yorumlama-lardan hangisi totoloji örneğidir?

- A)

D
Y

 B)

D
D

C)

Y
D

 D)

Y
Y

10. " $\forall x (x \text{ insandır.})$ " önermesi aşağı-da-ki evrenlerden hangisinde doğru-lanır?

- A) E: {lavanta, nergis}
B) E: {balık, tavuk}
C) E: {Derya, Mesut}
D) E: {altın, krom}

11. Doğadaki bir varlık sistemi hakkında ortaya konan önermelere - - - - adı verilir.

Bu cümlede boş bırakılan yere ge-tirilmesi gereken kavram aşağıda-kilerden hangisidir?

- A) bilimsel teori
B) yüklem değişmezi
C) kuram
D) işlem değişmezi

(502) İNGİLİZCE – 8

1-9. sorularda boş bırakılan yere/ yerlere uygun gelen kelime ya da ifadeyi işaretleyiniz.

1. **Matt** : Mum, can I watch TV?
Mum : First, you should finish your homework, - - - - you can watch TV.

Matt : OK, mum.

- A) moreover B) then
C) although D) otherwise

2. **Bella** : I need to read my e-mails on my phone but my battery is dead. Is it OK if - - - -?
Janice : Of course. It is on the table.

- A) I borrow your charger
B) I go out with my friends
C) you explain it again
D) you lend me your car

1. OTURUM

3. We had to take a taxi - - - - the heavy rain caused all the trains to stop.

- A) therefore B) although
C) since D) as a result

4. When the rescuers found the missing dog, they realized that it - - - - hungry for several days.

- A) had been B) will be
C) has been D) is

5. One of the reasons to use the alternative energy sources is to - - - -.

- A) increase global warming
B) contaminate the environment
C) endanger human and animal health
D) reduce greenhouse gases and pollution

6. If people consume energy excessively, it may cause - - - -.

- A) low risk of climate change
B) reduction in supply
C) protecting the environment
D) preserving the natural resources

7. Paul : Do you prefer face to face communication?

Sam : No, I - - - -.

- A) do my homework online
B) never share my password with others
C) like using social media to keep in touch
D) think technology wastes our time

8. Susan really likes - - - -. She always buys the latest laptops, cameras and smartphones on the Internet.

- A) technological devices
B) natural energy sources
C) charity organizations
D) community members

9. Carol : How was your holiday in India?

Pearl : I couldn't visit all of the important places because I stayed there only a few days. If only I had - - - -.

- A) booked a room in a hotel in advance
B) learned a few words in their language
C) knew the table manners of India
D) had enough time to travel the country

10. Lisa : I didn't mean to hurt your feelings. I am terribly sorry.

Jane : I know these sorts of things can happen from time to time. That's OK.

Lisa : That's so kind of you.

Bu diyaloga göre, aşağıdakilerden hangisi söylenemez?

- A) Lisa expresses her regret about her behaviour.
B) Jane accepts Lisa's apology.
C) Lisa talks about her biggest wish.
D) Jane behaves politely.

11.

Making Requests

Asking For Direction : - - - -

Bu tabloda boş bırakılan yere aşağıdakilerden hangisi getirilmelidir?

- A) Would you mind lending me your umbrella?
B) Could you tell me the way to the airport, please?
C) Can you lift that box for me, please?
D) Do you mind if I sit here?

(502) ALMANCA – 8

1-7. sorularda boş bırakılan yere/ yerlere uygun gelen kelime ya da ifadeyi işaretleyiniz.

1. Ahmet - - - - die Wäsche in die Waschmaschine - - - -.

- A) tust / rein B) rein / tun
C) tun / rein D) tut / rein

2. Durch technische Fortschritte - - - - man immer bessere Autos.

- A) entwickelt B) kaufen
C) liest D) reparieren

3. Mit - - - - technisch - - - - Geräten ist unser Alltag bequemer.

- A) die / -e B) das / -er
C) den / -en D) den / -e

4. Sie müssen die Briefmarke auf den Briefumschlag - - - -.

- A) kleben B) öffnen
C) laden D) liest

5. A: Ich suche eine Handytasche.

B: - - - - Handytasche?

A: Eine rote.

- A) Was für einen
B) Was für eine
C) Was für ein
D) Welches

6. A: Wofür will dein Vater Geld sparen?

B: Er will Geld sparen, - - - - eine Europareise - - - - machen.

- A) um / zu B) um / zur
C) an / zum D) am / bis

1. OTURUM

7. Wenn ich viel Geld hätte, - - - ich den armen Menschen helfen.

- A) habe B) würde
C) sei D) wäre

8. Wie kann man mit dem Handy telefonieren?

- A) Die Wäsche ins Gerät einfüllen, das Waschmittel geben, das gewünschte Programm auswählen und auf die Starttaste drücken.
B) Das Objektiv anbringen und das Bild aufnehmen.
C) Die Ziffern eingeben und auf die Taste „Anrufen“ drücken.
D) Den Auslöser zur Fokussierung zuerst halbdurch dann vollständig drücken.

9. “Das Einkommen” sözcüğünün Türkçe karşılığı aşağıdakilerden hangisidir?

- A) Lüzum B) Gider
C) Hesap D) Gelir

10. Warum benutzen viele Menschen Handys?

- A) Menschen mögen es, lange Briefe zu schreiben.
B) Menschen haben viel Zeit, um zu lernen.
C) Menschen wollen schnell und einfach mit anderen telefonieren.
D) Menschen mögen keine Handys und Computer.

11. Welches Haushaltsgerät wird nicht in der Küche gebraucht?

- A) der Toaster
B) das Bügeleisen
C) der Herd
D) die Fritteuse

(502) FRANSIZCA – 8

1-8. sorularda boş bırakılan yere/ yerlere uygun gelen kelime ya da ifadeyi işaretleyiniz.

1. A la sortie du festival de musique, Ali et Ayşe - - - - dans le bus qui passe près de chez eux.

- A) sont montées
B) ont monté
C) ont montés
D) sont montés

2. Atatürk - - - - fondé la République.

- A) sommes
B) a
C) as
D) ai

3. Un véritable éco-citoyen se déplace - - - - à pied ou - - - -.

- A) souvent / en voiture
B) jamais / en vélo
C) toujours / en vélo
D) toujours / en voiture

4. C'était lui qui - - - - du décor de la maison pendant toute l'année.

- A) s'occupais
B) s'occupait
C) s'occupaient
D) s'occupions

5. Notre patron sort - - - - le directeur.

- A) avant de
B) afin de
C) avant
D) d'abord

6. S'il - - - - beau demain, nous - - - - à la pêche.

- A) pleut / venez
B) faisait / vont
C) font / allons
D) fait / irons

7. Le thermomètre - - - -.

- A) indique la température
B) sert à produire de l'électricité
C) pollue la nature
D) est une énergie fossile

8. Un enseignant est la personne qui - - - -.

- A) enseigne dans les écoles
B) étudie les maths, l'histoire, etc.
C) apprend la géographie, la chimie, etc.
D) travaille dans le champ

9. Pour Aider à Protéger l'Environnement

Nos ressources naturelles, nos stocks sont limités par la capacité de la Terre. Alors il faut garder l'eau, l'air, le forêt. Pour cela, il ne faut pas jeter les piles, les plastiques dans la nature. Ne les jetez pas en décharge. Recyclez-les.

Bu metne göre, aşağıdakilerden hangisi doğrudur?

- A) On doit trier les déchets.
B) Il faut économiser de l'eau.
C) On doit utiliser l'énergie propre.
D) Il faut gaspiller nos stocks.

1. OTURUM

10.

“J'ai rien à me mettre”

La mode est la deuxième industrie la plus polluante du monde. La pollution, le transport, l'esclavage moderne se cache derrière les étiquettes. Les savez-vous? Si vous préférez la fast-fashion, vous polluez La Terre. Si vous êtes responsable il y a des alternatives à connaître pour une mode plus moins polluante : location, seconde main, matières naturelles, commerce équitable etc.

Bu metne göre, aşağıdakilerden hangisi doğrudur?

- A) Les étiquettes polluent La Terre.
- B) On doit choisir un mode plus responsable.
- C) L'industrie la plus polluante, c'est la mode.
- D) Utiliser les matières naturelles est chère.

11.

Écrire un roman: Créer les personnages

Les personnages sont le cœur du roman. Avant de commencer à écrire tout d'abord il faut créer des héros. Puis trouvez des personnages de la vie réelle ou des personnages imaginaires et le reste du plan viendra tout seul. Pour cela il faut faire une petite fiche descriptive pour chaque héros et chaque personnage.

Bu metne göre, aşağıdaki seçeneklerden hangisi doğrudur?

- A) Il faut trouver seulement des personnages imaginaires.
- B) Les personnages n'est pas au centre du roman.
- C) Faire une fiche descriptive n'est pas important.
- D) Au début du travail, il faut former les héros.

(511) FIKIH – 1

1. “Allah kimin hakkında hayır dilerse onu dinde derin anlayış sahibi kılar.”

Bu hadiste “dinde derin anlayış sahibi” ifadesi ile aşağıdakilerden hangisine işaret edilmektedir?

- A) Kari
- B) Fakih
- C) Müfessir
- D) Muhaddis

2. Fıkıh ilmi, ef'âl-i mükellefin ile ilgili Kur'an-ı Kerim ve sünnette yer alan şer'î hükümlerin doğru bir şekilde anlaşılmasını ve insanın bunları hayata aktarmasını konu edinmektedir.

Bu cümlede altı çizili bölüm ile aşağıdakilerden hangisine işaret edilmektedir?

- A) İnsan davranışlarına
- B) Ehliyetin şartlarına
- C) Fıkıh mezheplerine
- D) İcma ve içtihadı

3. **Mecelle-i Ahkâm-ı Adliye'de yer alan “Bir iş dık oldukça müttesi olur.” ilkesi aşağıdakilerden hangisi ile ilgilidir?**

- A) Helallerde genişlik
- B) Tekliflerde kolaylık
- C) Adaletin gözetilmesi
- D) Kamu yararının gözetilmesi

4. • Ayakta duramayacak durumda olan kişinin oturarak da namaz kılabilmesi
- İçki yasağı hakkında kesin hüküm beyan edilmeden önce uzaklaştırıcı ara hükümlerin bildirilmesi
 - Hz. Muhammed (sav) tarafından yasaklanan kabir ziyaretlerine daha sonra müsaade edilmesi

Bu cümlelerde aşağıdaki kavramlardan hangisinin örneğine yer verilmemiştir?

- A) Kolaylık
- B) Tedric
- C) İcma
- D) Nesh

5. **Aşağıdakilerden hangisi içtihat yapmaya açık olan nasların özelliklerinden biri değildir?**

- A) Dolaylı şekilde hüküm bildirmesi
- B) Delâletinin zan ifade etmesi
- C) Belli konularda izaha muhtaç olması
- D) Subût ve delâlet yönünden kat'î olması

6. **Aşağıdakilerden hangisi mezheplerin ortaya çıkmasında etkili olan ihtilaf konularından biri değildir?**

- A) Usul kaideleri
- B) Mütâriz nasların telifi
- C) Muhkem ayet ve hadisler
- D) Hüküm çıkarma metotları

7. **Mezheplerin oluşumundan sonraki dönemde, daha önce verilmiş hükümlerin sebep ve illetlerinin tespit edilmesi aşağıdakilerden hangisi ile ifade edilmektedir?**

- A) Tahric
- B) Şerh
- C) Tercih
- D) İstihsan

1. OTURUM

8. Aşağıdaki ayetlerden hangisi tekli-
fin mükellefin gücü oranında oldu-
ğu ile ilgilidir?

- A) "Şüphesiz ki bu Kur'an en doğru
yola iletir; iyi davranışlarda bulu-
nan müminlere kendileri için bü-
yük mükâfat olduğunu müjdeler."
(İsrâ suresi, 9. ayet)
- B) "Biz hiç kimseyi gücünün yettiğin-
den başkası ile yükümlü kılmayız.
Nezdimizde hakkı söyleyen bir
kitap vardır ve onlar haksızlığa
uğratılmazlar."
(Mü'minûn suresi, 62. ayet)
- C) "Artık Allah'ın size verdiği rızıktan
helal ve temiz olarak yiyin, eğer
gerçekten yalnız Allah'a ibadet
ediyorsanız onun nimetine şükre-
din."
(Nahl suresi, 114. ayet)
- D) "İman edip iyi işler yapanlara ne
mutlu! Varılacak güzel yurt da on-
lar içindir."
(Ra'd suresi, 29. ayet)

9. "Allah'ın ve Hz. Muhammed'in (sav)
emir, yasak ve serbest bırakmak gibi
konulardaki prensiplerinin tümü" için
kullanılan kavram aşağıdakilerden
hangisidir?

- A) Kıyas
B) İstishab
C) Vad'î hüküm
D) Teklifî hüküm

10. "Vacip" ile ilgili aşağıdakilerden
hangisi yanlıştır?

- A) İnkâr edilmesi kişiyi dinden çıkar-
maz.
B) Mükellef tarafından yerine getiril-
mesi gerekir.
C) Bir ibadeti bozan veya kısmen
geçersiz kılan fiillerdir.
D) Bazı mezheplerde farz veya mü-
ekked sünnet kapsamındadır.

11. Hz. Muhammed'in (sav) sözlü sün-
netleri için kullanılan kavram aşağı-
dakilerden hangisidir?

- A) Takrîri B) Amelî
C) Kavli D) Fiilî

(532) SEÇMELİ PEYGAMBERİMİZİN HAY. – 2

1. Aşağıdakilerden hangisi "risâlet"
kavramı ile ilgili değildir?

- A) Dinin gereklerini anlatmak
B) Danışarak iş yapmak
C) Söz ve davranışlarla açıklama
yapmak
D) Allah'ın emir ve yasaklarını duyur-
mak

2. • İslam'ın getirdiği ahlak anlayışının
yaşam tarzlarına uygun olmadığı
düşüncesi
• Kölelerin, sahip oldukları imtiyazları
kaybetmek istememesi
• Her kabilenin, peygamberin kendi
soyundan olması gerektiğini düşün-
mesi

**Müşriklerin İslam'a karşı çıkma
sebepleri ile ilgili verilen bilgiler
doğru(D) – yanlış(Y) olarak değer-
lendirildiğinde sıralama aşağıdaki-
lerden hangisi olur?**

- A) D–Y–D
B) Y–D–Y
C) D–D–Y
D) Y–Y–D

3. İslam'ın daha rahat yaşanmasına
ve yayılmasına imkân sağlayan ilk
olay aşağıdakilerden hangisidir?

- A) Taif Seferi
B) Mekke'nin Fethi
C) Medine'ye Hicret
D) Habeşistan'a Hicret

4. İslam düşmanlarından Ebu Cehil bir
gün Safa Tepesi'nin yanında, Hz.
Muhammed'e (sav) rastladı ve ona
ağır hakaretlerde bulundu. Bu olayı
işiten amcası - - - - çok sinirlendi ve
Ebu Cehil'e giderek "İşte ben de
onun dinindeyim! Gücün yetiyorsa o
yaptıklarını bana da yap!" dedi.

**Bu metinde boş bırakılan yere aşağı-
dakilerden hangisi getirilmelidir?**

- A) Ebu Talib B) Ebu Leheb
C) Hamza D) Abbas

5. Hz. Muhammed'in (sav) Mekke'de
müşriklerin baskı ve zulümlerinin
artması üzerine İslam'ı tebliğ ede-
bileceği yeni yerler bulma düşün-
cesi ile ilk yolculuğunu yaptığı şe-
hir aşağıdakilerden hangisidir?

- A) Tebük B) Taif
C) Yemen D) Yesrib

6. İsrâ ve Miraç olayına inanmayan
müşrikler, durumu Hz. Muhammed'in
(sav) en yakın arkadaşına anlattılar.
Böyle bir olayda ona inanmayacağını
düşündükleri Hz. Ebu Bekir "O ne
söylediyse doğrudur." cevabını verdi.

**Bu metinde bahsedilen olaydan
sonra Hz. Ebu Bekir aşağıdakiler-
den hangisi ile anılmıştır?**

- A) Zinnureyn B) Faruk
C) Seyfullah D) Siddık

7. Hz. Muhammed'in (sav) Adal ve Kare
kabilelerine İslam'ı öğretmek için gön-
derdiği on kişilik heyete, Huzeyl kabi-
lesi saldırı düzenlemiştir.

**Hakkında bilgi verilen olay aşağı-
dakilerden hangisidir?**

- A) Recî Vakası
B) Bir-i Maune
C) Batn-ı Nahle
D) Sifülbahr Seferi

8. Müminler! Sözümlü iyi dinleyiniz ve iyi
belleyiniz. Rabb'iniz birdir, babanız
da birdir. Hepiniz Âdem'densiniz.
Âdem de topraktan yaratılmıştır. Hiç
kimsenin başkaları üzerinde soy üs-
tünlüğü yoktur. Allah katında üstünlük
ancak - - - - iledir.

**Veda Hutbesi'ne ait bu metinde
boş bırakılan yere aşağıdakilerden
hangisi getirilmelidir?**

- A) takva B) isâr
C) tevekkül D) ihsan

1. OTURUM

9. Hz. Muhammed'in (sav) hicretinden önce Yesrib olarak bilinen şehir, hicretten sonra peygamber şehri anlamına gelen - - - şeklinde anılmaya başlanmıştır.

Bu cümlede boş bırakılan yere aşağıdakilerden hangisi getirilmiştir?

- A) Ravza-i Mutahhara
B) Mescid-i Haram
C) Medinetü'n-Nebi
D) Mescid-i Dırar

10. I. Akabe bölgesinde gerçekleşmiştir.
II. Yesrib'den ikisi kadın olmak üzere yetmiş beş kişi katılmıştır.
III. Musab bin Umeyr öğretmen olarak Yesrib'e gönderilmiştir.
IV. Hz. Muhammed (sav) ve ashabi yaşadıkları sıkıntılardan dolayı Medine'ye davet edilmiştir.

Birinci Akabe Biati ile ilgili numaralanmış bilgilerden hangileri doğrudur?

- A) I ve II
B) I ve III
C) II ve IV
D) III ve IV

11. Aşağıdakilerden hangisi Hz. Muhammed'in (sav) Arap Yarımadası dışında bulunan devlet başkanlarına İslam'ı duyurmak amacıyla yaptığı uygulamalardan biridir?

- A) Seferlere çıkarak
B) Askeri birlik hazırlamak
C) Öğretmen görevlendirmek
D) Davet mektupları göndermek

(535) SEÇMELİ PEYGAMBERİMİZİN HAY. – 5

1. I. Müşriklerin sosyal ve ekonomik ambargo uygulamaya başlaması
II. Habeşistan'a hicret edilmesi
III. Hz. Muhammed'in (sav) Taif yolculuğuna çıkması
IV. Hz. Muhammed'e (sav) açık davetin emredilmesi

Numaralanmış olayların kronolojik sıralaması aşağıdakilerin hangisinde verilmiştir?

- A) I-III-II-IV
B) I-IV-II-III
C) IV-I-II-III
D) IV-III-I-II

2. Gizli davet sürecini sona erdiren ayetler aşağıdakilerden hangisidir?

- A) "Ey örtünüp bürünen! Kalk da uyar. Rabb'ini yücelt. Nefsini arındır. Şirkten uzak dur."
(Müddessir suresi, 1-5. ayetler)
B) "Rabb'in seni terk etmedi, sana darılmadı da. Muhakkak ki ahiret senin için dünyadan daha hayırlıdır. Şüphesiz, Rabb'in sana verecek ve sen de hoşnut olacaksın."
(Duhâ suresi, 3-5. ayetler)
C) "Yaratan Rabb'inin adıyla oku! O, insanı alaktan yarattı. Oku! Senin Rabb'in en cömert olandır."
(Alâk suresi, 1-3. ayetler)
D) "En yakın akrabana uyar. Müminlerden sana uyanlara katatlarını indir. Eğer sana karşı gelirlerse, 'Şüphesiz ben sizin yaptığınız şeylerden uzağım' de."
(Şu'arâ suresi, 214-216. ayetler)

3. Hz. Muhammed'in (sav) Taif dönüşü güvenli bir şekilde Mekke'ye girebilmesi için onu himayesine alan kişi aşağıdakilerden hangisidir?

- A) Tufeyl bin Amr
B) Mutim bin Adiyy
C) Esad bin Zürene
D) Muaz bin Cebel

4. Hz. Muhammed (sav) "En faziletli amel hangisidir?" sorusuna, kişinin içinde bulunduğu durumuna ve sorma şekline bakarak "Allah'a iman", "anne babaya hizmet" ya da "namaz" şeklinde farklı cevaplar vermiştir.

Bu durum, Hz. Muhammed'in (sav) davetinin temel ilkelerinden hangisine örnektir?

- A) Zaman ve mekânın şartları
B) Yakından uzağa yönelmesi
C) Muhatabını tanıması
D) Müjdeleme

5. • Musab bin Umeyr ile beraber Medine halkına İslam'ı öğretmekle görevlendirmiştir.
• Bilâl-i Habeşi ile birlikte Hz. Muhammed'in (sav) müezzinliğini yapmıştır.
• Hz. Muhammed (sav) Medine dışına çıktığı zaman ona vekâlet etmiş ve geride kalanlara namaz kıldırmıştır.

Hakkında bilgi verilen sahabe aşağıdakilerden hangisidir?

- A) Esad bin Zürene
B) İbn Ümmü Mektum
C) Ubade bin Samit
D) Ammar bin Yasir

6. Aşağıdakilerden hangisi Hz. Ebu Bekir vasıtasıyla Müslüman olan sahabelerden biri değildir?

- A) Osman bin Afvan
B) Zübeyr bin Avvam
C) Sad bin Ebi Vakkas
D) Ömer bin Hattab

1. OTURUM

7. Mahzum kabilesinden bir kadının hırsızlık yaptığında cezadan kurtulmak için soyunun üstünlüğünü öne çıkarması, Hz. Muhammed'i (sav) üzümüştür. Bunun üzerine, bir suç işlendiğinde suçlunun toplumdaki konumuna göre ceza almasından dolayı önceki milletlerin helak olduğuna dikkat çekmiştir. Cezayı hak eden kendi kızı Fatıma olsa dahi adaletten ayrılmayacağını belirtmiştir.

Bu metin Hz. Muhammed'in (sav) eğitimde temel ilke ve metotlarından hangisi ile ilgilidir?

- A) Muhatabın özelliklerini gözetmesi
B) Kolaydan zora doğru gidişi tercih etmesi
C) Yanlış inanç ve düşüncelerin tasihini
D) Sevgi, şefkat ve merhameti esas alması

8. "Mümin bal arısına benzer; güzel şeyler yer, güzel şeyler üretir, güzel yerlere konar. Konduğu yeri de kırmaz ve bozmaz."

Bu hadiste Hz. Muhammed'in (sav) eğitimde benimsediği temel ilke ve metotlardan hangisine işaret edilmektedir?

- A) Örnek, benzetme ve kıssaları kullanma
B) Soru cevap yöntemini kullanma
C) Terğib ve terhibi beraber kullanma
D) Muhatabın özelliklerini gözetme

9. On yedi sureyi ezberlemiş olması, sahabe'nin övücü sözleriyle Hz. Muhammed'e (sav) bildirilmiştir. Bu durum Hz. Muhammed'in (sav) çok hoşuna gitmiş ve onun İbranceyi öğrenmesini rica etmiştir. Kısa zamanda İbrance yazmayı öğrenmiştir. Bundan sonra Yahudilerden gelen mektupları hem okumuş hem de Hz. Muhammed'in (sav) onlara karşı cevaplarını yazmıştır.

Bu metinde hakkında bilgi verilen sahabe aşağıdakilerden hangisidir?

- A) Zeyd bin Sabit
B) Zeyd bin Harise
C) Abdullah bin Mesud
D) Musab bin Umeyr

10. **Aşağıdakilerden hangisi Medine'de İslam'ın anlatıldığı ve eğitim mekânlarına dönüşen evlerden biri değildir?**

- A) Mahreme bin Nevfel'in evi
B) Külsüm bin Hidm'in evi
C) Erkam bin Ebi'l Erkam'ın evi
D) Sad bin Heysem'in evi

11. • Babası Hz. Ebu Bekir, annesi Kinane kabilesinden Ümmü Rûman'dır.
• İslam toplumunda siddika ve ümmü'l-müminin olarak anılmıştır.
• Çok sayıda hadis rivayet etmesinin yanında tefsir, fıkıh, tarih ilimlerinde ve şiirde otorite kabul edilmiştir.

Hakkında bilgi verilen sahabe aşağıdakilerden hangisidir?

- A) Hz. Hatice B) Hz. Safiyye
C) Hz. Zeynep D) Hz. Âişe

(537) SEÇMELİ PEYGAMBERİMİZİN HAY. – 7

1. I. "Sizden biri, kendisi için istediğini kardeşi için de istemedikçe iman etmiş olamaz."
II. "Hiçbiriniz beni babasından, evlâdından ve bütün insanlardan daha çok sevmedikçe gerçekten iman etmiş olmaz."
III. "Müminler birbirini sevmeye, birbirlerine merhamet ve şefkat göstermede, tıpkı bir organı rahatsızlandığında diğer organları da uykusuzluk ve yüksek ateşle bu acıyı paylaşan bir bedene benzer."
IV. "Ey Ömer! Allah'a yemin ederim ki, sen, beni canından daha fazla sevmedikçe olgun mümin olamazsın."

Numaralanmış hadislerden hangileri Hz. Muhammed'e (sav) duyulan sevginin önemini vurgulamaktadır?

- A) I ve II B) I ve III
C) II ve IV D) III ve IV

2. "Allahümmesalli ala Muhammedin ve ala âli Muhammed" şeklinde ifade edilen duanın anlamı aşağıdakilerden hangisidir?

- A) Allah'ın rahmeti ve bereketi, Muhammed'in, ailesinin ve ona iman edenlerin üzerine olsun.
B) Allah'tan başka ilah yoktur. Muhammed Allah'ın elçisidir.
C) Allah'tan başka ilah olmadığına, Muhammed'in onun kulu ve elçisi olduğuna şahadet ederim.
D) Allah'ım İbrahim ve ailesini mübarek kıldığın gibi Muhammed ve ailesini de mübarek kıl.

3. Kur'an-ı Kerim, dinin temel hükümlerini belirler, Hz. Muhammed (sav) ise bu hükümlerin nasıl uygulanacağını gösterir ve müminlere rehberlik eder. Kur'an-ı Kerim'de namazın farz olduğu bildirilir, nasıl kılınacağı Hz. Muhammed'in (sav) uygulamalarıyla belirlenir. Aynı şekilde hac ibadeti emredilir. Haccın edasına dair hükümler Hz. Muhammed'in (sav) uygulamalarında görülür. Oruç, zekât ve diğer ibadetlerde de durum böyledir.

Bu metinde aşağıdakilerden hangisine işaret edilmektedir?

- A) Farz B) Vacip
C) Sünnet D) Mübah

4. I. Hz. Muhammed'in (sav) eşi Hafsa ile kardeşidir.
II. Habeşistan'a hicret eden kafilenin başkanıdır.
III. Ebu Hüreyre'den sonra en çok hadis rivayet eden yedi sahabe'den biridir.
IV. Uhud Gazvesi'nde şehit olmuştur.

Numaralanmış bilgilerden hangileri Abdullah bin Ömer'e aittir?

- A) I ve II B) I ve III
C) II ve IV D) III ve IV

1. OTURUM

5. "Hz. Muhammed'in (sav) zamanında yaşamış, Müslüman olarak Hz. Muhammed'i (sav) görmüş, onun sohbetinde bulunmuş ve yine Müslüman olarak ölmüş kimseler" için kullanılan kavram aşağıdakilerden hangisidir?

- A) Tâbiîn B) Sahabe
C) Sabîî D) Muttaki

6. "Zulme uğradıktan sonra Allah yolunda hicret edenlere gelince, elbette onları dünyada güzel bir şekilde yerleştiririz."

(Nahl suresi, 41. ayet)

Aşağıdakilerden hangisi bu ayette altı çizili bölüm ile işaret edilen kişilerden biri değildir?

- A) Esad bin Zürene
B) Zeyd bin Harise
C) Abdurrahman bin Avf
D) Bilal-i Habeşi

7. Aşağıdakilerden hangisi "Aşere-i Mübeşşere"den biri değildir?

- A) Talha bin Ubeydullah
B) Abdurrahman bin Avf
C) Ebu Ubeyde bin Cerrah
D) Abdullah bin Ömer

8. Hz. Muhammed'in (sav) Habeşistan hükümdarına yazmış olduğu İslam'a davet mektubunu aşağıdaki sahabelerden hangisi götürmüştür?

- A) Amr bin Ümeyye ed-Damrî
B) Selit bin Amr
C) Hevze bin Ali
D) Abdullah bin Huzâf

9. "Peygamberlerin Allah'tan aldıkları emir ve hükümleri insanlara aynen bildirmeleri" anlamına gelen kavram aşağıdakilerden hangisidir?

- A) Hidayet B) Tebşîr
C) Tebliğ D) İrşat

10. Aşağıdakilerden hangisi Hz. Muhammed'in (sav) görevlerinden biri değildir?

- A) Kendinden önceki toplumların kültürünü aktarmak
B) Kur'an-ı Kerim'i tebliğ etmek
C) Allah'ın hükümlerini açıklamak
D) Örnek bir şekilde yaşamak

11. İlk Müslümanlardan ve ashab-ı kirâmın ilim ve fazilet bakımından önde gelenlerindedir. Künyesi Ebu Abdurrahman'dır. İslamiyet'i seçtiğinde Müslümanların sayısı azdı. Açıkta Kur'an-ı Kerim'i okuyamaz ve Kâbe'de namaz kılamazlardı. Bu duruma bir son vermek istemiş ve bazı Müslümanların karşı çıkmasına aldırmaz etmeden müşriklerin ileri gelenlerinin Kâbe çevresinde toplu hâlde buldukları bir sırada yüksek sesle Kur'an-ı Kerim okumuştur. Böylece Hz. Muhammed'den (sav) sonra Kâbe'de açıkta Kur'an-ı Kerim'i okuyan ilk sahabe olmuştur. Irak Tefsir Mektebinin temelini atarak Kur'an ilimlerine önemli hizmetler yapmıştır.

Bu metinde hakkında bilgi verilen sahabe aşağıdakilerden hangisidir?

- A) Abdullah bin Ömer
B) Abdullah bin Mesud
C) Zeyd bin Harise
D) Talha bin Ubeydullah

(544) TÜRK DİLİ VE EDEBİYATI – 4

1. Dünya edebiyatında roman türünün ilk başarılı örneği kabul edilen eser aşağıdakilerden hangisidir?

- A) Don Kişot
B) Monte Cristo Kontu
C) Robenson Cruze
D) Dekameron

2. Millî Edebiyat Dönemi romanı ile ilgili aşağıdakilerden hangisi söylenemez?

- A) Eserlerde gözleme önem verilmiştir.
B) Eserlerin dili, ağır ve süslü değildir.
C) Eserler, teknik yönden başarılıdır.
D) Eserlerde İstanbul ve çevresi dışına çıkılmamıştır.

3. Türk edebiyatında "roman" ile ilgili aşağıdaki eşleştirmelerden hangisi doğrudur?

- A) İlk yerli roman - İntibah
B) İlk tarihî roman - Cezmi
C) İlk realist roman - Taaşşuk-ı Talat ve Fitnat
D) İlk köy romanı - Esrâr-ı Cinâyât

4. HACİVAT – (Semai söyleyerek gelir.)

...
Elin koy sine-i billura
Be rahm et âşıkım zira

Beyaz üzre çekilmişdir
Pençe fermanımız vardır
Of hay Hak!

(Perde gazelini okur.)

Gerçi bir tasvîrdir ammâ pür-edâdır
perdemiz
Hikmet-âmîz-i safâ râhat-fezâdır
perdemiz

Hazret-i Sultan Orhan rahmetu'llahtan
beri
Yâdigâr-ı KUŞTERÎ seyre sezâdır
perdemiz

...

Bu parça, Karagöz oyununun hangi bölümünden alınmıştır?

- A) Fasil B) Muhavere
C) Bitiş D) Mukaddime

5. Aşağıdaki eserlerden hangisi Akif Paşa'ya aittir?

- A) Tabsıra
B) Saray ve Ötesi
C) Edebî Hatıralar
D) Ömer'in Çocukluğu

1. OTURUM

6. Avustralya'da Queensland Teknoloji Üniversitesi öğrencileri, romatoid artrit (RA) nedeniyle ellerinde biçim bozukluğu oluşan hastalar için 200 °C sıcaklığa dayanıklı bir cihaz tasarladı. RA hastaları için yemek yapmanın güç ve tehlikeli bir süreç olduğunu gözlemleyen öğrencilerin geliştirdiği cihaz, silikon kaplamalı kauçuk malzemeden ve manyetik şeritlerden oluşuyor. Hasta, ön koluna takılan bu cihazla tencereleri kolayca kavrayabiliyor.

Bu haber metninde aşağıdaki sorulardan hangisinin cevabı yoktur?

- A) Nerede? B) Kim?
C) Ne zaman? D) Ne?

7. **Türkçe ilk gezi kitabının yazarı aşağıdakilerden hangisidir?**

- A) Seydi Ali Reis
B) Ahmet Haşım
C) Evliya Çelebi
D) Reşat Nuri Güntekin

8. (I) Adaletli olmak bir değerdir. (II) Yöneticilerin çalışanlarına karşı adil olması, eşit hak ve sorumlulukları yerine getirmesi normların varlığını gerektirir. (III) Hoş görülme bir değerdir. (IV) Çalışanlarının düşünce ve kanaatlerini özgürce dile getirmelerine engel olmamak da bir normdur.

Bu parçadaki numaralanmış cümlelerin hangisinde yazım yanlışı vardır?

- A) I B) II C) III D) IV

9. (I) Yayıncılıkta para kazanabilmek için akla hemen iki basit yöntem geliyor: Çok kazanmak için çok satmak, çok sayıda okuyucuyu tutmak. (II) Okuyucuların çoğu yayımladığım eseri almıyorsa, ben de onların alacağı eseri yayımlarım. (III) Böylece yayınlamamın amacı da, hedefi de değişir. (IV) Artık yayınevimiz, deyim yerindeyse, yeni edebiyatın esnaflığına başlamıştır.

Bu parçadaki numaralanmış cümlelerin hangilerinde noktalama yanlışı vardır?

- A) I ve III B) I ve IV
C) II ve III D) II ve IV

10. **Aşağıdaki cümlelerden hangisi devrik bir isim cümlesidir?**

- A) İstedüğün vakit yanına gelebilirim.
B) Aradığım şeyi bulamam hiçbir zaman.
C) Sesleri çıkaran yaramaz bir kediydi.
D) Çok merhametlidir bu kasabanın insanları.

11. **Aşağıdaki cümlelerin hangisi yapı bakımından diğerlerinden farklıdır?**

- A) Ayşe ve Zeynep, yarın bize gelecek.
B) Beni her zaman seveceğini biliyorum.
C) Öğleden önce sporumu yapıyorum.
D) Menemen bugün çok lezzetli olmuş.

(547) TÜRK DİLİ VE EDEBİYATI – 7

1. Cumhuriyet Dönemi'ne gelinceye kadar yayımlanan yapıtların en önemlilerinden ikisi, ünlü bir yazar ve çevirmen olan Ahmet Vefik Paşa'nın 1876'da basılan - - - - adlı eseri ve Türklerin en önde gelen dilci ve yazarlarından - - - - Kamus-ı Türkî'sidir.

Bu cümlede boş bırakılan yerlere getirilmesi gerekenler sırasıyla aşağıdakilerin hangisinde verilmiştir?

- A) Lehçe-i Osmanî - Şemsettin Sami'nin
B) Divanü Lûgat-it Türk - Mustafa bin Şemsettin'in
C) Ahterî Sözlüğü - Hasan Eren'in
D) Derleme Sözlüğü - Ömer Asım Aksoy'un

2. **Aşağıdaki parçaların hangisinde kahraman anlatıcı kullanılmıştır?**

- A) Ve Yusuf o sonbahar günlerinde gönüllü jandarma oldu. Artık Söğüt sokaklarından yaylı arabasıyla değil, üstünde hâkî üniforması, başında siyah kalpağı ile gelip geçmekteydi. Esma onu bir iki defa pencereden görmüştü.
B) Tozlu yol bitti, asfalt başladı. Yanımdan arabalar geçiyor, bir iki kere işaret ettim ama altında araba olanda vicdan kalmamış demek ki. Beni görmeden, son hızla geçip yokuştan aşağı gidiyorlar. Sonra yürüye yürüye Tahsinlerin oraya geldim.
C) Ali, bu efsaneyi çok duymuştu Zara'da. Pek çok hikâyesini dinlemişti adamın. Fakat ilk defa, bu adam kendisine ulaşılacak hedef diye gösteriliyordu. Hem de anasının ağzından... Şaşıtı bu işe çocuk ama ses de çıkarmadı.
D) Durum ümit verici değildi. Yerdeki halı mobilyalarla hiç uymuyordu. Düğün hediyesiydi ve yenisini alacak paraları da yoktu. Çalışma masasına yaklaştı. Kaya'nın ayrı bir çalışma odası vardı. Orada ne çalışıyordu acaba?

3. Sıkıntı verici bir film görmüş, eve dönüyordum hızlı hızlı. Sokak sessizdi, ıssızdı. İleride bir adam vardı. Bir apartmana bakarak "Saat on ikiye beş var!" diye bağırdı. Birilerini uyarıyor sanmıştım. Oysa adam yürümeye başlamıştı ve sesini dört bir yana yönelterek uyarısını sürdürüyordu: "Saat on ikiye beş var!" Sürekli, "Saat on ikiye beş var!" Üç beş pencere daha kararmıştı.

Bu küçürek hikâye ile ilgili aşağıdakilerden hangisi söylenemez?

- A) Az sayıda kelimeyle oluşturulmuştur.
B) Yalnızca bir anın saptaması yapılmıştır.
C) Kişi, zaman ve mekân gibi unsurlara sınırlı bir şekilde yer verilmiştir.
D) Bilgi vermek amacıyla yazılmıştır.

1. OTURUM

(548) TÜRK DİLİ VE EDEBİYATI – 8

4. Atımı istedim evin göğü gerindi
Çin gülleri bir yerden ordan
geliyordum
Öyle sular dağların üstüydü isminiz
Yeşil, o solukları gibi rüzgârların
Bin bir yıl rüzgâr değirmeninizde
kaldım
- Bu dizeler şekil ve içerik bakımından değerlendirildiğinde aşağıdaki şiir anlayışlarından hangisine ait olabilir?**
- A) Garip
B) İkinci Yeni
C) Toplumcu Gerçekçi
D) Millî Edebiyat
5. Tanıdığım bir ağaç var
Etlik bağlarına yakın
Saadetin adını bile duymamış
Tanrının işine bakın
- Bu dizelerdeki edebî sanat aşağıdakilerden hangisidir?**
- A) Teşhis B) Teşbih
C) Mübalağa D) Intak
6. Bu anlayış Türk edebiyatında
1930'lardan itibaren yaygınlaşmaya
başlar. Bu yıllarda, sanat yapıtını
ortaya çıkaran sebepler ile halk ve
sanat arasındaki ilişkiler üzerinde
durulur. Halka uzak ve onun sorunlarına
eğilmeyen sanatın gerçek bir
sanat olamayacağı savunulur. Şiirler
bu anlayışta, vezin ve kafiye kurallarını
dikkate almadan serbest nazımla
yazılır. Fütürizm akımından etkilenilir
ve toplum için sanat ilkesiyle eserler
verilir.
- Aşağıdaki sanatçılardan hangisi, bu parçada sözü edilen şiir anlayışıyla eser yazmış olamaz?**
- A) Nazım Hikmet Ran
B) Arif Damar
C) Arif Nihat Asya
D) Ahmed Arif
7. **Aşağıdaki cümlelerin hangisinde "mı/mi"nin yazımı yanlıştır?**
- A) Bahar geldi mi her yer çiçeklerle bezenir.
B) Kendisine verilen görevleri neden zamanında yap mıyor?
C) Bakar mısınız, diye seslenince herkes ona döndü.
D) Dayım bu işi de mi yapmak istemedi?

8. Fobi () insanların bir durum () olgu veya canlı karşısında duyduklarıyla onların gündelik hayatını etkileyebilen ileri düzeydeki korku () endişe ve kaçınma hâlidir ()
- Bu cümlede yay ayrıçla gösterilen yerlere sırasıyla aşağıdaki noktalama işaretlerinden hangisi getirilmelidir?**
- A) (,) (;) (,) (.)
B) (-) (;) (,) (.)
C) (:) (,) (-) (.)
D) (;) (,) (,) (.)
9. "İşlemek" sözcüğü aşağıdaki cümlelerin hangisinde "kayıtları düzgün olarak tutmak veya gereken yere aktarmak" anlamında kullanılmıştır?
- A) Her hafta depoya iner, malzemeleri tek tek sayıp bilgisayara işlerdi.
B) Konferansta işlenen konuyla ilgili araştırma yaptıkça konuşmacının ne demek istediğini daha iyi anladık.
C) Hasan Bey'in restoranı yeni açılmasına rağmen harika işliyordu.
D) Kaldırımında oturan adamın hıçkırma hıçkırma ağlaması hepimizin yüreğine işlemişti.
10. I. Şimdi en ağır sorumluluklardan birini üstleniyordu.
II. Ağır bir yemek kokusu bütün odayı kaplamıştı.
III. Sabahın bu saatinde kalkmak bana ağır geliyordu.
IV. En ağır yükler günümüzde gemiler vasıtasıyla taşıyor.
- "Ağır" sözcüğü numaralanmış cümlelerin hangisinde mecaz anlamıyla kullanılmamıştır?**
- A) I B) II C) III D) IV
11. Eski Türkçede "çocuk, evlat" anlamına gelen "oğul" kelimesi, günümüzde sadece "erkek çocuğu" anlamında kullanılmaktadır.
- Bu cümlede sözü edilen anlam değişmesi aşağıdakilerden hangisidir?**
- A) Anlam kayması
B) Anlam genişlemesi
C) Anlam daralması
D) Anlam kötüleşmesi

1. **Aşağıdakilerden hangisi "bireyin iç dünyasını esas alan" sanatçılardan değildir?**

- A) Peyami Safa
B) Ahmet Hamdi Tanpınar
C) Abdülhak Şinasi Hisar
D) Sabahattin Ali

2. **Aşağıdakilerden hangisi Millî Edebiyat zevk ve anlayışıyla yazılan eserlerden biridir?**

- A) Huzur
B) Yaban
C) Dokuzuncu Hariciye Koğuşu
D) Ayaşlı ve Kiracıları

3. **Aşağıdaki parçalardan hangisi birinci kişi ağızyla yazılmıştır?**

- A) Çok güç bir soru sordun Tolgonay. Nice nice milletler savaş sonunda yok olup gitti, nice nice şehirler yanıp kül oldu ve toprak olarak üzerimde insan ayağının izini görmek için yüzyıllarca beklediğim oldu. İnsanlar ne zaman bir savaş başlatacak olsa onlara şöyle diyordum: "Durun! Kan dökmeyin!"
B) İki eliyle arkasındaki ağacın kabuklarına sarıldı. Parmakları soğuk yarıkların arasına girdi. Elini hemen geri çekti ve göğsüne götürdü. Göğsünün içinde, bu asırlık ağacın kabuğu gibi, yarıklar bulunduğu sandı ve gırtlığına kadar bir ateşin çıktığını hissetti.
C) Kino'ya her çeşit insan ilgi duymaya başlamıştı; satacak malı olanlar, yardım için başvurmaya hazırlananlar, herkes... Kino dünyanın en büyük incisini bulmuştu. İncinin özü insanın özüne karışınca ortaya tuhaf, kapkara bir tortu çıkivermişti. Kino'nun incisi birdenbire herkesin düşü, hesabı, planı, arzusu, ihtiyacı ve açlığı oluvermişti.
D) Matt'in konuşmasıyla sessizlik bozulur bozulmaz Beyaz Diş sıçrayarak geri kaçmış, yabanice hırlamaya başlamıştı ona. Matt, patronuna, Beyaz Diş'in yaptığını hiç beğenmediğini belli eden bir tavırla şöyle bir baktı. Weedon Scott gülümsedi, ayağa kalkıp Beyaz Diş'in yanına gitti. Yatıştırıcı bir dille konuştu onunla.

1. OTURUM

4. Tiyatro oyununda, bir oyuncunun kendi kendine yaptığı konuşmaya - - - - adı verilir.

Bu cümlede boş bırakılan yere aşağıdakilerden hangisi getirilmelidir?

- A) sahne B) diyalog
C) monolog D) jest

5. Türkçeyi ustalıkla kullanan sanatçı, konusunu Osmanlı tarihinden aldığı oyunlarıyla tanındı. Günün gerçekleriyle tarihî gerçekleri sanatın potansında eriterek okuyucuya sundu. "Deli İbrahim, IV. Murat, Kösem Sultan ve Sokrates Savunuyor" en tanınmış tiyatro eserleridir.

Bu parçada sözü edilen sanatçı aşağıdakilerden hangisidir?

- A) Turan Ofıazoğlu
B) Necati Cumalı
C) Orhan Asena
D) Ahmet Kutsi Tecer

6. Okuyan için kitaplığının yanı başından daha rahat bir yer olabileceğini sanmıyorum. Ben kendi hesabıma, kitaplarımın arasında duyduğum rahatlığı hiçbir yerde duymamışımdır. Kitapların yenilerini de eskilerini de severim. Ama yenilere her zaman güven olmaz. Bizi aldattıkları da olur. Oysaki böyle bir şey eski kitaplarımızda görülmez. Onlar, eski arkadaşlar gibidir; değerleri belirmiş, yakınlıkları denenmiştir. Onlara çekinmeden dönebiliriz.

Bu parça aşağıdaki metin türlerinden hangisine örnektir?

- A) Makale B) Deneme
C) Masal D) Tiyatro

7. **Aşağıdakilerden hangisi iyi bir haptipte bulunması gereken özelliklerden değildir?**

- A) Dinleyicilerin ilgilerini ve tepkilerini göz önünde bulundurur.
B) Ses tonunu, jest ve mimiklerini, vurgu ve tonlamayı ustaca kullanır.
C) Konuşmasını, süslü ve kapalı bir dille yapar.
D) Söz söylediği konuda zengin bir bilgi ve düşünce birikimine sahiptir.

8. **Aşağıdaki cümlelerin hangisinde yazım yanlışı vardır?**

- A) Büyük üstat Prof. Dr. Halil İnalıcık'ı herkesin okuması gerekiyor.
B) Gezdiği yerler kadar okuduğu kitaplar da Vali'nin yaşamını derinden etkiler.
C) Kuzey Amerika'dan başlayan yolculuk Meksika'da sona erdi.
D) TTK'ndan gelen kitapları öğrencilerine dağıtmaya karar verdi.

9. I. Gerekli adımlar zamanında atılırsa () elde edilemeyecek başarı yoktur.
II. Her şeye iyi tarafından bakmak insanı yanıltabilir () ama unutmayın ki insana yaşama sevinci katan iyimserliktir.
III. Türk dilinin sadeleşmesinde ve () öykü türünün edebiyatımıza yerleşmesinde yazarın önemli katkıları vardır.
IV. Avluda oynarken () gümüş söğütlerin ardında gürül gürül akan dereyi işitirdik.

Numaralanmış cümlelerde yay ayraçla gösterilen yerlerden hangisine virgül getirilebilir?

- A) I B) II C) III D) IV

10. Piktogramlar ilk olarak günümüzden binlerce yıl önce yaşamış bazı uygarlıklar tarafından kullanılan çizimlerdir. Bu çizimler bir nesneyi, bir alanı, bir davranışı veya bir olayı anlatır. Piktogramların en önemli özelliği ise çok basit olmaları ve ayrıntı içermemeleridir. Böylece anlatılmak istenen şey, farklı yaşlarda farklı dilleri konuşan ve hatta okuma yazma bilmeyen kişiler tarafından kolayca anlaşılabilir. Piktogramlarla günlük yaşamımızda sıkça karşılaşırız.

Bu parçada "piktogram"la ilgili aşağıdaki sorulardan hangisinin cevabı yoktur?

- A) Günlük yaşamımızda niçin sık sık karşılaşılır?
B) Tarihi ne kadar eskiye dayanır?
C) Neyi konu edinir?
D) Kolay anlaşılır olmasının sebebi nedir?

11. I. Bu duyuş, beni benden alır götürür.
II. Sanki kapalı pencereler ansızın açılır.
III. Gecenin geç saatlerinde, her şeyin sustuğu, havanın durulduğu anlarda, bir köşeye çekilip şiir okurum.
IV. Odaya ilkbahar meltemiyle birlikte taze bir ışık dolar.
V. İçime dolan mısraların kalp atışını duyurum.

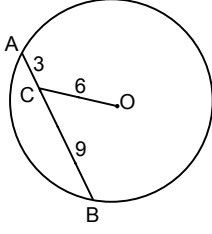
Numaralanmış cümlelerle anlamlı bir paragraf oluşturulmak istenirse sıralama aşağıdakilerden hangisi olur?

- A) II-I-IV-V-III B) II-IV-V-I-III
C) III-IV-II-I-V D) III-V-I-II-IV

1. OTURUM

(609) SEÇMELİ MATEMATİK – 2

1.

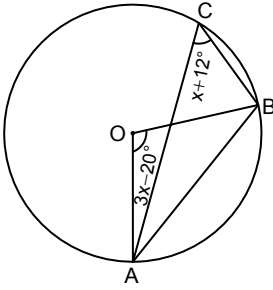


Şekildeki O merkezli çemberde [AB] kiriş, $C \in [AB]$, $|AC| = 3$ cm, $|CB| = 9$ cm ve $|OC| = 6$ cm'dir.

Buna göre, çemberin yarıçap uzunluğu kaç santimetredir?

- A) $3\sqrt{5}$ B) $3\sqrt{7}$
C) $5\sqrt{3}$ D) $4\sqrt{5}$

2.

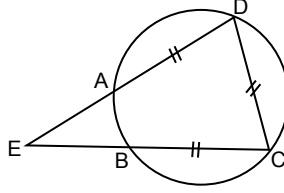


Şekilde A, B ve C noktaları O merkezli çember üzerinde ve $m(\widehat{AOB}) = 3x - 20^\circ$, $m(\widehat{ACB}) = x + 12^\circ$ dir.

Buna göre, $m(\widehat{BAO})$ kaç derecedir?

- A) 44 B) 39 C) 34 D) 29

3.

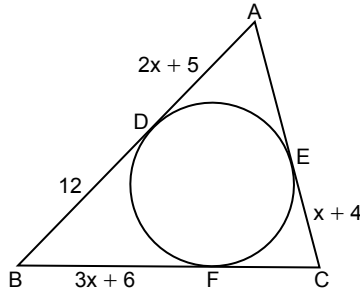


Şekilde A, B, C, D noktaları çember üzerinde; E, A, D ve E, B, C noktaları doğrusal ve $|AD| = |DC| = |CB|$, $m(\widehat{AB}) = 60^\circ$ dir.

Buna göre, $m(\widehat{DEC})$ kaç derecedir?

- A) 10 B) 20 C) 30 D) 40

4.

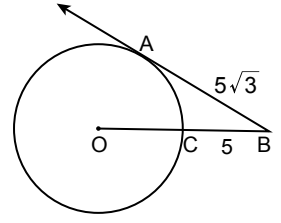


Şekilde D, E, F noktaları ABC üçgeninin iç teğet çemberinin değme noktaları ve $|AD| = (2x + 5)$ cm, $|DB| = 12$ cm, $|BF| = (3x + 6)$ cm, $|CE| = (x + 4)$ cm'dir.

Buna göre, ABC üçgeninin çevresi kaç santimetredir?

- A) 42 B) 46 C) 48 D) 54

5.

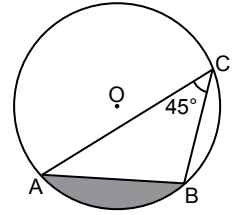


Şekilde [BA, O merkezli çembere A noktasında teğet ve O, C, B noktaları doğrusaldır.

$|AB| = 5\sqrt{3}$ cm ve $|CB| = 5$ cm olduğuna göre, $|OC|$ kaç santimetredir?

- A) 7 B) 6 C) 5 D) 4

6.



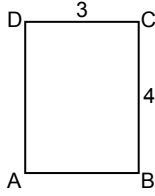
Şekildeki O merkezli dairenin yarıçap uzunluğu 6 cm ve $m(\widehat{ACB}) = 45^\circ$ dir.

Buna göre, boyalı bölgenin alanı kaç santimetrekaredir?

- A) $27\pi - 9$ B) $27\pi - 18$
C) $9\pi - 9$ D) $9\pi - 18$

1. OTURUM

7.



Şekildeki ABCD dikdörtgeninde $|BC| = 4$ cm, $|CD| = 3$ cm'dir.

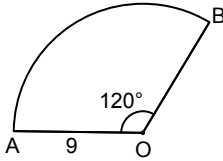
Bu dikdörtgenin [AD] kenarı etrafında 90° döndürülmesiyle elde edilen cismin hacmi kaç santimetreküptür?

- A) 18π B) 12π C) 9π D) 6π

8. Yüzey alanı 576π cm² olan içi tamamen dolu metal bir küre eritilerek elde edilen maddenin tümüyle yarıçapı 3 cm olan içi tamamen dolu kaç tane metal eş küre elde edilir?

- A) 64 B) 128 C) 192 D) 256

9.



Şekildeki O merkezli daire diliminin merkez açısının ölçüsü 120° ve $|OA| = 9$ cm'dir.

Bu daire diliminin [OA] ve [OB] kenarları bir koni oluşturacak şekilde çakıştırıldığında oluşan koninin yüksekliği kaç santimetredir?

- A) 3 B) $3\sqrt{3}$
C) 6 D) $6\sqrt{2}$

10. İki zar atıldığında üst yüze gelen sayıların çarpımının 5'ten küçük olduğu bilindiğine göre, bu sayıların toplamının 4 olma olasılığı kaçtır?

- A) $\frac{3}{8}$ B) $\frac{1}{2}$ C) $\frac{5}{8}$ D) $\frac{3}{4}$

11. Alman ve İngiliz turistlerden oluşan bir topluluğun %40'ı Alman'dır. Bu topluluktaki İngiliz turistlerin %60'ı, Alman turistlerin ise %50'si kadındır.

Buna göre, bu topluluktan seçilen herhangi bir turistin Alman veya kadın olma olasılığı kaçtır?

- A) $\frac{19}{25}$ B) $\frac{14}{25}$ C) $\frac{11}{25}$ D) $\frac{8}{25}$

(611) DİNLER TARİHİ – 1

1. • "Sizin dininiz size, benim dinim de banadır."
(Kâfirûn suresi, 6. ayet)

• "...İbrahim, bunu kendi oğullarına da vasiyet etti, Yakub da öyle: 'Oğullarım! Allah sizin için bu dini seçti. Siz de ancak Müslümanlar olarak ölün.' dedi."
(Bakara suresi, 132. ayet)

Bu ayetlerde geçen "din" kelimesi hangi anlamda kullanılmıştır?

- A) Hesap ve ceza günü
B) Örf ve adet
C) Kanun ve kurallar
D) İnanç ve ibadet

2. **Aşağıdakilerden hangisi Müslüman âlimlerin din tanımlarında göz önünde bulundurdıkları hususlardan biri değildir?**

- A) Kaynağının Allah olması
B) Beşerî bir yansıtma olması
C) Akli ve özgür iradeyi esas alması
D) Dünya ve ahirete ilişkin yönünün bulunması

3. **Dinler Tarihi'nin normatif bir bilim dalı olarak kabul edilmemesinin nedeni aşağıdakilerden hangisidir?**

- A) Betimleyiciliği
B) Yargılayıcılığı
C) Savunmacılığı
D) Kural koyuculuğu

4. • Anadolu'nun fethi ile İslamiyet yayılmaya başlamıştır.
• Nizamiye Medreselerinin kurulmasıyla pek çok alanda öncü âlimler yetişmiştir.

Bu bilgiler aşağıdaki dönemlerden hangisi ile ilgilidir?

- A) Emeviler B) Dört Halife
C) Selçuklular D) Abbasiler

5. "Rabbimiz! Gelmesinde şüphe olmayan bir günde, insanları mutlaka toplayacak olan sensin. Allah sözünden dönmez."
(Âl-i İmrân suresi, 9. ayet)

Bu ayette İslam inanç esaslarından hangisi vurgulanmaktadır?

- A) Ahiret gününe iman
B) Kutsal kitaplara iman
C) Peygamberlere iman
D) Meleklerle iman

6. **Yahudi tarihinde aşağıdakilerden hangisi "İkinci Mabet Dönemi"nde gerçekleşmiştir?**

- A) Kabileler ilk kez yerleşik düzene geçmiştir.
B) Hz. Davut'tan sonra oğlu Hz. Süleyman kral olmuştur.
C) İsrailoğulları Yeşu önderliğinde vaat edilmiş topraklara girmiştir.
D) Babil sürgünü, Perslilerin bölgeye hâkim olmasıyla sona ermiştir.

7. **Hz. Musa'ya, Sina'da taş tabletler üzerine yazılı olarak verildiğine inanılan ilahi emirlerden hangisi "Tevhit" ilkesi ile ilgilidir?**

- A) Başka ilâhlara tapmayacaksınız.
B) Cumartesi günü hiçbir iş yapmayacaksınız.
C) Komşuna karşı yalan şahitlik etmeyeceksin.
D) Tanrı'nın ismini boş yere ağza almayacaksınız.

1. OTURUM

8. Mensuplarının, Tevrat'ın beşer eliyle yazıldığını kabul etmediği ve ilahî bir ilhamla yazdırılmış olduğuna inandığı Yahudi akımı aşağıdakilerden hangisidir?

- A) Ortodoks
- B) Reformist
- C) Muhafazakâr
- D) Yeniden Yapılanmacı

9. İslam literatüründe "Nasraniyye, Mesihîyye, İseviyye" olarak isimlendirilen din aşağıdakilerden hangisidir?

- A) Sâbîlik
- B) Mecûsîlik
- C) Yahudilik
- D) Hristiyanlık

10. Kişinin, sadece kutsal kitap, sadece iman ve sadece lütuf aracılığıyla kurtulabileceğinin söylendiği "üç sola öğretisi" Hristiyan mezheplerinden hangisine aittir?

- A) Katoliklik
- B) Protestanlık
- C) Ortodoksuluk
- D) Muhafazakârlık

11. Hristiyanlığın paganlar arasında yayılmasında en önemli misyoner olan - - - -, stratejisini şöyle ifade etmiştir: "Kimsenin kölesi olmayan özgür biri olduğum hâlde, daha çok kişiyi kazanayım diye kendimi herkesin kölesi yaptım."

Bu metinde boş bırakılan yere aşağıdakilerden hangisi getirilmelidir?

- A) Pavlus
- B) Markos
- C) Yuhanna
- D) Martin Luther

(621) SEÇ. TÜRK DİLİ VE EDEBİYATI – 3

1. "Ahterî Sözlüğü" aşağıdaki yazarlardan hangisine aittir?

- A) Şemsettin Sami
- B) Ömer Asım Aksoy
- C) Ferit Devellioğlu
- D) Mustafa bin Şemsettin

2. Aşağıdakilerden hangisi "bireyin iç dünyasını anlatmayı esas alan" hikâyeler ile ilgili söylenemez?

- A) Bunalımlara ve iç çatışmalara yer verilir.
- B) Dış dünya olduğu gibi anlatılır.
- C) Bilinç akışı, iç çözümleme gibi teknikler öne çıkarılır.
- D) İç dünya tüm yönleriyle yansıtılır.

3. Karşı gelen birini kucaklamadım. Beni hiç yolcu etmediler ama anladım. Üç kişi olmalı, fazla değil. Biri annem, öbürleri ortadan. Ellerini öpmeliyim, alnımdan öpmeliler. Bu arada bir tuzlu damla süzülmesi yanaklarımdan, çenemde durmalı yahut burunumun ucunda durmalı, düşmemeli. Ama işte dedim ya, benim hiç karşılayanımdan olmadı.

Bu parça ile ilgili aşağıdakilerden hangisi söylenemez?

- A) Kahraman anlatıcıya yer verilmiştir.
- B) Anlaşılır bir dille yazılmıştır.
- C) Açıklayıcı anlatım kullanılmıştır.
- D) Kahramanın iç dünyasının yansıtılması amaçlanmıştır.

4. Aşağıdakilerden hangisi "saf şiir" anlayışının temsilcilerinden değildir?

- A) Cahit Sıtkı Tarancı
- B) İlhan Berk
- C) Asaf Halet Çelebi
- D) Ahmet Muhip Dıranas

5. Ve eşyamız ne küskün!

Yola çıktığımız gün,
Bir sıraya dizilmiş,
Gözyaşlarını silmiş,
Bakarlar sinsî sinsî.
Niçin o anda hepsi,
Bir kuş gibi hafifler,
Arkandan geleyim der?

Bu dizelerde kişileştirilen varlık aşağıdakilerden hangisidir?

- A) Yol
- B) Kuş
- C) Eşya
- D) Gözyaşı

6. Hiçbir şeyden çekmedi dünyada Nasırdan çektiği kadar;
Hattâ çirkin yaratıldığından bile O kadar müteessir değildi;
Kundurası vurmadığı zamanlarda Anmazdı ama Allah'ın adını,
Günahkâr da sayılmazdı.
Yazık oldu Süleyman Efendi'ye.

Bu dizeler şekil ve içerik bakımından değerlendirildiğinde aşağıdakilerden hangisi söylenemez?

- A) Sanatlı söyleyişten kaçınılmıştır.
- B) Samimi bir dil kullanılmıştır.
- C) Halktan bir insanın duygu ve düşünceleri anlatılmıştır.
- D) Ahenge ve musikiye önem verilmiştir.

7. (I) Türkiye de dâhil olmak üzere dünyanın pek çok ülkesinde yüz binlerce hasta, organ nakli için sırada. (II) Organ naklinde, gerekli organın temin edilmesi kadar organın, hastanın bulunduğu yere zamanında nakledilmesi de önemli. (III) Neyseki son yıllarda organ taşıma ağı etkileyici bir şekilde ilerleme kaydediyor. (IV) Bu soruna çözüm arayan araştırmacılar organların hızlı taşınmasını sağlayacak bir İHA geliştirdi.

Bu parçadaki numaralanmış cümlelerin hangisinde yazım yanlışı vardır?

- A) I
- B) II
- C) III
- D) IV

8. Öğretmenim () Öğrencileriniz sağlığını merak ediyor () evinizin önünde toplandılar () denince gözleri doluverdi ()

Bu parçada yay ayraçla gösterilen yerlere sırasıyla aşağıdaki noktalama işaretlerinden hangisi getirilmelidir?

- A) (.) (,) (!) (.)
- B) (!) (,) (,) (.)
- C) (!) (,) (...) (!)
- D) (...) (,) (!) (.)

1. OTURUM

9. • Doğruyu söylediğini sanıp yanıldım.
I
• Bazı günler bana aldırış etmiyordu.
II
• Hak ettiğinden fazlasını bekleyenler bu işte aldandılar.
III
• Yaptığı davranışlar çoğu zaman tehlikeli oluyordu.
IV

Bu cümlelerdeki numaralanmış sözlerden hangileri birbirleriyle eş anlamlıdır?

- A) I ve III B) I ve IV
C) II ve III D) II ve IV

10. (I) Güneş Sistemi'nde bulunan gezegenler arasında, büyüklüğü Dünya'ya en yakın olan, Venüs'tür. (II) Hatta bu özelliği nedeniyle Venüs "Dünya'nın ikizi" olarak adlandırılıyor. (III) Ayrıca Venüs'ün Dünya'ya en yakın mesafedeki gezegenlerden biri olduğu da biliniyor. (IV) Buraya gönderilen araçlar sayesinde onunla ilgili detaylı bilgiler elde edilebiliyor.

Numaralanmış cümlelerin hangisinde terim anlamlı sözcük kullanılmamıştır?

- A) I B) II C) III D) IV

11. **Aşağıdaki cümlelerin hangisinde altı çizili sözcük mecaz anlamıyla kullanılmıştır?**

- A) Arkamdan yumuşak adımlarla gelen biri vardı.
B) Üç gün evvel, buraya gelmemi söyledi.
C) Onu daima neşeli görmek güzeldi.
D) Irak yerlerden buralara kadar gelmişti.

(622) SEÇ. TÜRK DİLİ VE EDEBİYATI – 4

1. - - - -, etkili betimleme gücüyle geleneksel anlatım biçimlerine zenginlik katar. Toplumcu gerçekçi akımın önemli temsilcilerindedir. "Kuyucaklı Yusuf" bu anlayışla yazılmış en başarılı romanlardan biridir. "İçimizdeki Şeytan, Kürk Mantolu Madonna" diğer önemli romanlarıdır.

Bu parçada boş bırakılan yere aşağıdakilerden hangisi getirilmelidir?

- A) Sabahattin Ali
B) Tarık Buğra
C) Orhan Pamuk
D) Bilge Karasu

2. **Aşağıdaki parçaların hangisinde kahramanın kişiliği ile ilgili herhangi bir çıkarımda bulunulamaz?**

- A) Salih, yazmaya hatta ufak şiirler karalamaya kalktı fakat bundan yine çabuk vazgeçti. İçindekileri hangi şekilde olursa olsun dışarıya vurmamak korkusu, bu manasız ve lüzumsuz ürkekliliği buna engel olmuştu.
B) Turgut, bu insanları, onların kendilerine verdikleri önemden daha ötede görerek onların bütün yaptıklarını ciddiye alırdı. Sonunda aynı insanların beklemediği davranışlarını görünce üzüntüden ne yapacağını bilemezdi.
C) Mümtaz, Boyacıköyü'ne kadar yürüdü. Önündeki manzara, mesafeye, yürüyüş istikametine göre açılıp kapanıyordu. Orada, deniz kenarında küçük bir balıkçı kahvesine oturdu. Kahvede bir iki semt delikanlısıyla birkaç kayıkçı vardı.
D) Fahri Bey, bir iş yaptığını inanarak eve döndüğü akşamlar çok şen olur. Evde herkesle, hiç kimseyi bulamazsa karısı ile çene yarıştırır. Misafirlerden birini bulursa hemen onu yakalar, eğer misafir de inatçı ise yorulmadıkça bırakmaz.

3. Boğaziçi'nin Anadolu kıyısındaki tenha, bayır ve yarı boş köylerinden birinde bir bahar akşamıydı. Kuvvetli bir yağmur yağıyordu. Rüzgâr da öyle esiyor ve her tarafı öyle sınırlılam ediyordu ki yokuşlardan sürekli seller akıyor ve oluklardan sular boşanıyordu. Bir haftadan beri sürüp giden bu yağışlar altında ahşap evler rutubeti sünger gibi çekmişti.

Bu parça ile ilgili aşağıdakilerden hangisi söylenebilir?

- A) Açıklayıcı anlatım kullanılmıştır.
B) Kahraman bakış açısıyla yazılmıştır.
C) Ağır bir dille kaleme alınmıştır.
D) Benzetmeden yararlanılmıştır.

4. **TURGUT** : Şimdi de siz sustunuz. Bir şeyiniz yok ya?
NEVİN : Hayır, iyiyim. Bir an daldım fakat geçti şimdi.
TURGUT : Ne geçti aklınızdan?
NEVİN : (Evdeki sessizliği yoldan geçmekte olan bir otobüsün korna sesi bozar.) Anlatsam gülersiniz bana.
TURGUT : Gü'lünç bir şey mi o kadar?
NEVİN : Otobüste gelirken iki erkek, yol boyu birbirlerine hep fıkrâ anlatıyorlardı. Birine bir ara kulak misafiri olmuşum. Aklıma geldi şimdi.
TURGUT : Nasıl bir şeydi, anlatın bana da.

Bu parça ile ilgili aşağıdakilerden hangisi söylenemez?

- A) Diyalog şeklinde yazılmıştır.
B) Mimik ve jeste yer verilmiştir.
C) Konu günlük yaşamdan alınmıştır.
D) Sade bir dil kullanılmıştır.

1. OTURUM

5. (I) Tiyatro üzerine bilimsel çalışmalar artmış, daha akademik tiyatro eğitimi verilmeye başlanmış ve tiyatro eleştirisi gelişmiştir. (II) Bu yıllarda ulusal Türk tiyatrosunu geliştirme yolunda ciddi girişimler görülmüştür. (III) Epik tiyatro gibi farklı türlerde eserler verilmiştir. (IV) Oyun yazarları, dönemin siyasi koşulları sebebiyle güncel olaylardan ve toplumsal sorunlardan uzaklaşmıştır.

Numaralanmış cümlelerin hangisinde "1960'larda Türk tiyatrosu" ile ilgili yanlış bilgi verilmiştir?

- A) I B) II C) III D) IV

6. Söylev türünün Batı'daki ilk örneklerini eski Yunan edebiyatında - - - -, Latin edebiyatında ise - - - - verir. Türk edebiyatında ise - - - - ilk hatip olarak kabul edilir.

Bu parçada boş bırakılan yerlere getirilmesi gerekenler sırasıyla aşağıdakilerin hangisinde verilmiştir?

- A) Demosten - Çiçero - Bilge Kağan
B) Montaigne - Bousset - Kaşgarlı Mahmut
C) Bacon - Sartre - Halide Edip Adivar
D) Eliot - Huxley - Hamdullah Suphi Tanrıöver

7. Aşağıdaki cümlelerin hangisinde altı çizili sözün yazımı yanlıştır?

- A) Her yıl olduğu gibi bu yıl da Anneler Günü, etkinliklerle kutlanacak.
B) Bir Devrin Romanı, yazarın Kerkük'teki yaşantıyı konu edindiği eseridir.
C) Porselen koleksiyonlarından birine Topkapı Sarayı ev sahipliği yapıyor.
D) Antalya'da devam eden Film Festivali birçok sanatçıyı bir araya getirdi.

8. Hayatım birçok imgenin ışığında ilerliyor () doğduğum evin ışık saçan görüntüsü () çiçekli bir bahçe () köpeğimin sevgi dolu bakışı ()

Bu cümlede yay ayrıla gösterilen yerlere sırasıyla aşağıdaki noktalama işaretlerinden hangisi getirilmelidir?

- A) (:) (,) (.) (...)
B) (:) (,) (.) (.)
C) (;) (,) (.) (...)
D) (;) (,) (.) (.)

9. İleriki kuşaklara kalacak eserler sadece iyi yazılmış olanlardır. Bilgilerin çokluğu, anlatılan olayların garipliği hatta keşiflerin yeniliği ebediliği sağlamaz. Bunları içeren eserler, yazılışlarında zevk, soyluluk ve deha gücü yoksa ölüme mahkumdur. Çünkü bilgiler, olaylar, keşifler, eserden kolayca çıkarılabilir, başka eserlere aktarılabilir hatta daha usta ellerde değerleri artar. Bunlar insanın dışında şeylerdir. Üslup ise insanın ta kendisidir. Bundan dolayı üslup; eserden çıkarılamaz, başka yere aktarılamaz, değiştirilemez.

Bu parçanın ana düşüncesi aşağıdakilerden hangisidir?

- A) Sanatçılar eserlerini gelecek kuşaklara bırakma kaygısı güder.
B) Eserde kalıcılığın yakalanması sanatçının üslubuna bağlıdır.
C) İçerik, usta dokunuşlarla daha kıymetli hâle gelir.
D) Eserdeki üslup, kişiden kişiye farklılık gösterir.

10. I. Tanzimat'tan beri bu sorunu çözmek, Batılı olmak için çabalyoruz.
II. Bu sorun, sadece sanatla ilgili değil; aksine, toplumun tamamını ilgilendiren büyük bir sorun.
III. Halkımız için, epeydir Batılı olmak, Batılılaşmak diye bir sorun var.
IV. Bazılarımızsa Batılılaşmaya direnç gösteriyor.

Numaralanmış cümlelerle anlamlı bir paragraf oluşturmak istenirse sıralama aşağıdakilerden hangisi olur?

- A) II-IV-I-III B) II-IV-III-I
C) III-II-I-IV D) IV-I-III-II

11. "Pek çok şeyi kitaplardan öğrendim." dersem az şey söylemiş olurum. "Üzgün olduğum zamanlarda üzüntümü kitaplarla unuttum." dersem kitap okuyan herkesin bildiği bir hakikati tekrarlamış sayılırım. Kitap denilen varlığın gerçekten büyüdü bir mutluluk aracı olduğuna herkesi inandırabilseydim dünyanın yüzü güler ve insanların hayatı değişirdi.

Bu parçadan kitaplar ile ilgili aşağıdakilerden hangisine ulaşılabılır?

- A) Öz güveni artırır.
B) Yaşamı güzelleştirir.
C) Hayalî bir dünya sunar.
D) Geçmişle bağ kurar.

(713) İSLAM KÜLTÜR VE MEDENİYETİ – 1

1. Aşağıdakilerden hangisi kültürün özelliklerin biri değildir?

- A) Toplumlara özgüdür.
B) Oluşumu için belirli bir süreç gereklidir.
C) Kendini oluşturan unsurlarla etki-leşim içindedir.
D) Dışarıdan etkilendiği unsurları olduğu gibi kabul eder.

1. OTURUM

2. İlk insan ve ilk peygamber olan Hz. Âdem, Allah'ın hitabı ile terbiye olmuştur. Bu nedenle insanlık tarihinin, ilkelikten medeniyete doğru aralıksız ilerleme gösterdiği söylenemez. Medeniyetin kaynağından uzaklaştıktan sonra insanlığın vahyin kaynağına tekrar dönmesi için peygamberler gönderilmiş ve böylelikle medeniyetin süreklilik kazanması sağlanmıştır. Hz. Muhammed (sav) ile de kemâle ermiş ve olgunlaşmıştır.

Bu metinden aşağıdaki sorulardan hangisinin cevabına ulaşamaz?

- A) İlk ve son peygamberler kimlerdir?
B) Farklı kültürlerin medeniyete etkisi nelerdir?
C) İslam medeniyetinin kaynağı nelerdir?
D) Peygamberlerin gönderiliş amacı nedir?

3. İslam kültür ve medeniyeti, insanı kula kulluk etmekten kurtarıp yalnızca Allah'a kulluk etmesini sağlar. Zira Allah'a itaat, insanı kendi nefsi de dâhil olmak üzere her türlü gücün baskısı altına girmekten korur. Allah, insanı inanıp inanmama konusunda özgür bırakır. Ancak ahlaki ilkelerden sorumlu tutarak amaçsız ve başıboş bir özgürlüğün olamayacağını da öğretir.

Bu metinden aşağıdakilerden hangisi çıkarılamaz?

- A) Akıl, bilgi edinmek için tek başına yeterlidir.
B) İnsan, tercihlerinde hür bırakılmıştır.
C) Özgür irade kişinin sorumlu olmasını gerektirir.
D) Erdemli davranmak bütün insanlara görevidir.

4. İslam medeniyetinin diğer kültürlerden edindiği birikimleri olduğu gibi kabul etmeyip "tevhit" ilkesine uygun olanları seçmesi öncelikle hangi özelliği ile ilgilidir?

- A) İlimliliği B) Yerelliği
C) Özgünlüğü D) Evrenselliği

5. İslam kültür ve medeniyetinin yerellik anlayışı ile ilgili aşağıdakilerden hangisi söylenemez?

- A) Ezanın yeryüzünde tevhidin sembolü olarak görülmesi
B) Kültürel farklılıkların zenginlik olarak değerlendirilmesi
C) İslam'a ters düşmeyen örf ve âdetlerin kabul edilmesi
D) Kültürel asimilasyona karşı çıkması

6. Aşağıdakilerden hangisi Medine Sözleşmesi'nin amaçlarından biri değildir?

- A) Toplumda birlik ve beraberliği sağlamak
B) Güvene dayalı bir ortam oluşturmak
C) Huzur ve barışı tesis etmek
D) Verimli arazileri kullanmak

7. Hz. Muhammed'in (sav) peygamberlik görevini yaptığı ve İslam'ın en güzel şekilde yaşandığı zaman - - - - Dönemi olarak adlandırılmaktadır.

Bu metinde boş bırakılan yere aşağıdakilerden hangisi getirilmelidir?

- A) Mekke
B) Cahiliye
C) Fetret
D) Asr-ı Saadet

8. "Kıyamet kopuyor olsa ve birinin elinde bir fidan bulursa kıyamet kopmadan onu dikebilirse bunu hemen yap-sın."

Bu hadis ile insanlara kazandırılmak istenen tutum ve davranış aşağıdakilerden hangisidir?

- A) Doğru tüketim
B) Çevre bilinci
C) Kurallara riayet
D) Hayvanlara karşı merhamet

9. "Allah Âdem'e bütün varlıkların isimlerini öğretti..."
(Bakara suresi, 31. ayet)

Bu ayette Allah'ın sıfatlarından hangisine işaret edilmektedir?

- A) er-Rahman B) el-Melik
C) el-Âlim D) er-Rezzak

10. Bir hadisin metin ve senet kısmının güvenilir olup olmadığının incelenmesi aşağıdaki kavramlardan hangisi ile ifade edilmektedir?

- A) Cerh ve tadil
B) Rivayet
C) Tedvin
D) Tasnif

11. Farabi "İhsâu'l-ulûm" adlı eserinde ilimlerin tasnifinin gerekliliğini açıklarken aşağıdakilerden hangisine değinmemiştir?

- A) İlimlerin sınırının birbirinden ayrılmasına
B) Alanlar arası ilişkilerin belirlenmesine
C) Farklı ilimlere ait bilgilerin çıkarılmasına
D) Eğitim sisteminin ana müfredatının oluşturulmasına

(817) AKAİD – 1

1. Akıl sahibi insanların dine yönelik ve bağlılığının, kendi hür iradesi ve tercihi ile olması gerekir. Din; hak ile batılı, doğru ile yanlış göstererek kişi açısından ne gibi sonuçlar doğuracağını açıklar. Bu aşamadan sonra da dine yönelip yönelmemekte bir zorlama söz konusu olamaz.

Bu metin aşağıdaki ayetlerden hangisi ile ilişkilendirilebilir?

- A) "De ki: Hak, Rabb'inizdendir. Artık dileyen iman etsin, dileyen inkâr etsin..."
(Kehf suresi, 29. ayet)
B) "Allah'a çağırın, salih amel işleyen ve 'kuşkusuz ben Müslümanlardanım' diyenden daha güzel sözlü kimdir?"
(Fussilet suresi, 33. ayet)
C) "Allah, gizlediğinizi de açığa vurduğunuzu da bilir."
(Nahl suresi, 19. ayet)
D) "İnsanlardan, inanmadıkları hâlde, 'Allah'a ve ahiret gününe inandık' diyenler de vardır."
(Bakara suresi, 8. ayet)

1. OTURUM

2. Aşağıdakilerden hangisi akaid ilminin ele aldığı konulardan biri değildir?

- A) Meleklerin görevleri
- B) Allah'ın varlığı ve birliği
- C) Ahiret hayatının aşamaları
- D) Muamelat ile ilgili meseleler

3. İslam akaidi, sadece kalp ve vicdanla yetinmeyip istidlallere de yer verir. Diğer bazı inanç sistemlerinde görülen, inanılacak şeylerin akılla kavranamayan şeyler olması gerektiği ve kişinin sorumluluğunun sadece kabullenmekten ibaret olduğu gibi anlayışları kabul etmez.

Bu metin İslam akaidinin özelliklerinden hangisi ile ilgilidir?

- A) Fıtrata uygun olması
- B) Kesin delillere dayanması
- C) Mutedil ve dengeli olması
- D) Açık ve sade olması

4. Taklidî iman ile ilgili aşağıdakilerden hangisi yanlıştır?

- A) İslam toplumunda doğmuş olmanın doğal bir sonucudur.
- B) Delillere dayalı olmaksızın gerçekleşir.
- C) Bilgi, araştırma ve kavrama ile kazanılır.
- D) Aile başta olmak üzere çevrenin telkini ile meydana gelir.

5. Bir kişi, dinin emir ve yasaklarını kabul ettiği hâlde yasaklardan kaçınmaz, farzları yerine getirmeyen ise imandan çıkmaz ama imanın olgunluğunu yitirmiş ve tehlikeye düşürmüş olur.

Bu metin aşağıdaki konulardan hangisi ile doğrudan ilgilidir?

- A) Çeşitli açılardan imanın tasnifi
- B) Amelin önemi ve iman ile ilişkisi
- C) İmanın geçerli olmasının şartları
- D) İnanç bakımından insanların sınıflandırılması

6. "Başkasına iyilik yapmak, yaptığı işi güzel yapmak" şeklinde tanımlanan kavram aşağıdakilerden hangisidir?

- A) İkrar
- B) İntiba
- C) İman
- D) İhsan

7. Her ismi, kâinatı yoktan var eden ve kendisine inanıp ibadet ettiğimiz Allah'ı tanıtmaktadır. Allah'ı bilmek ve tanımak her kul için önemlidir. Çünkü bilen tanır, tanıyan sever ve seven O'na yaklaşır.

Bu metin aşağıdaki kavramlardan hangisi ile ilgilidir?

- A) Tevekkül
- B) Marifetullah
- C) Rüyeyullah
- D) Mukadderat

8. "Allah, ilk ve sondur. Zâhir ve Bâtın'dır. O, her şeyi hakkıyla bilendir."

(Hadîd suresi, 3. ayet)

Bu ayetten Allah'ın zatî sıfatlarından hangisine ulaşılabilir?

- A) Bekâ
- B) Semi
- C) Vahdaniyet
- D) Muhalefetün il'î-havâdis

9. Allah'ın "rızkı verici" anlamına gelen fiili sıfatı aşağıdakilerden hangisidir?

- A) İhya
- B) İmate
- C) Halk
- D) Terzik

10. "Ey Muhammed! De ki: 'Ruhu'l-Kudüs inananların inançlarını sağlamlaştırmak, Müslümanlara doğru yolu göstermek ve onlara bir müjde olmak üzere Kur'an'ı Rabb'inden hak olarak indirdi.'"

(Nahl suresi, 102. ayet)

Bu ayette bahsedilen melek aşağıdakilerden hangisidir?

- A) Mikâil
- B) Azrail
- C) Cebrail
- D) İsrail

11. Meleklerle ait aşağıdaki bilgilerden hangisi "Mikâil" ile ilgilidir?

- A) Melekü'l mevt olarak bilinmektedir.
- B) İsmi Kur'an-ı Kerim'de geçmeyen meleklerdendir.
- C) Görevlerinden biri canlıların rızıklarını dağıtmaktır.
- D) Hadislerde sûr'a üfleyeceğinden bahsedilmiştir.

(819) KELAM – 1

1. Kalam ilminin "İlm-i istidlal" olarak da adlandırılmasının nedeni aşağıdakilerden hangisidir?

- A) Dinin itikat esaslarını konu edinmesi
- B) Allah'a iman konusuna ağırlık vermesi
- C) Fıkıhın inançla ilgili yönlerini ele alması
- D) Yöntem olarak düşünme ve akıl yürütmeyi seçmesi

2. Aşağıdakilerden hangisi kalam ilminin "Hz. Peygamber Dönemi"nde ele alınan konularından biri değildir?

- A) Büyük günah meselesi
- B) Allah-âlem ilişkisi
- C) Cennet ve cehennem
- D) Ahiret hayatı

3. Gazzâlî ile ilgili aşağıdakilerden hangisi söylenemez?

- A) Mantık ilmini kelama dâhil etmiştir.
- B) İlk fikrî hareketler döneminin önemli isimlerindendir.
- C) Kelamı tasavvufa uzlaştırmaya çaba göstermiştir.
- D) İslam akaidiyle uyuşmayan felsefi görüşleri eleştirmiştir.

1. OTURUM

4. Hicri III. asırda Ehl-i sünnet anlayışı iki gruba ayrılarak gelişmiştir. Bunların ilki Ashab'u'l-hadîs olarak isimlendirilirken ikinci grup ise dinî esasları akli ilkelerle yorumlayıp temellendirme yöntemini benimsemiştir.

Aşağıdakilerden hangisi Ehl-i sünnetin ikinci grubunda yer alan âlimlerden biridir?

- A) Ebu Dâvûd
B) Vâsıl bin Atâ
C) Hâris el-Muhâsibî
D) Ahmet bin Hanbel

5. Bilginin kaynaklarını; "aklı selîm, haber-i sadık, havass-ı selîme" şeklinde kabul eden Ehl-i sünnet ekollerini aşağıdakilerin hangisinde vermiştir?

- A) Eşariyye – Mâtürîdiyye
B) Mutezile – Eşariyye
C) Mâtürîdiyye – Mutezile
D) Mürcie – Cebriyye

6. Çağa hitap etmek durumunda olan kelimeler, fert ve kitle psikolojisi ile insanın davranışlarını iyi ve kötü olarak değerlendiren ahlak ilminin verilerinden yararlanmaktadır.

Bu metinden kelimeler ile ilgili aşağıdakilerden hangisi çıkarılabilir?

- A) Varlığın nedenini araştırmaya çalışır.
B) Tabiat bilimlerinin elde ettiği verilerden yararlanır.
C) Âlemi, yaratıcının varlığını ispatlaması yönüyle ele alır.
D) Sosyoloji ve beşerî bilimlerin değerlendirmelerinden istifade eder.

7. • İki farklı şey arasındaki ortak özelliği bularak bunlardan birinin sahip olduğu özelliğin diğerinde de bulunduğu sonucuna ulaşmaktır.
• Görünene dayanarak görünmeyeni delillendirmek ya da bilinenden hareketle bilinmeyenin bilgisine ulaşmaktır.

Bu ifadeler aşağıdaki kavramlardan hangisi ile ilgilidir?

- A) Teşri B) Temsil
C) Tevhit D) Takva

8. "Şüphesiz, göklerin ve yerin yaratılışında, gece ile gündüzün birbiri ardınca gelişinde, insanlara yarar sağlayacak şeylerle denizde seyreden gemilerde, Allah'ın gökyüzünden indirip kendisiyle ölmüş toprağı dirilttiği yağmurda, yeryüzünde her çeşit canlıyı yaymasında, rüzgârların ve göklerle yer arasındaki emre amade bulutları evirip çevirmesinde elbette düşünen bir topluluk için deliller vardır."
(Bakara suresi, 164. ayet)

Bu ayette aşağıdakilerden hangisi vurgulanmaktadır?

- A) Evrendeki düzenin zamanla bozulduğu
B) Dünya nimetlerinden faydalanmak gerektiği
C) Yaratılan her şeyin, insanı bir yaratıcı fikrine götürdüğü
D) Allah'ın verdiği nimetleri israf etmekten kaçınmak gerektiği

9. • "...Allah'a karşı ancak; kulları içinden âlim olanlar derin saygı duyarlar..."
(Fâtır suresi, 28. ayet)

• "...De ki: 'Hiç bilenlerle bilmeyenler bir olur mu?' Ancak akıl sahipleri öğüt alırlar."
(Zümer suresi, 9. ayet)

Aşağıdakilerden hangisi bu ayetlerin herhangi biriyle ilişkilendirilemez?

- A) Dil ile ikrar iman etmek için yeterlidir.
B) Allah insanın aklını kullanmasını istemektedir.
C) İnsanlar arasında bilgi yönünden farklılık bulunmaktadır.
D) İslam dini bilgi sahibi olmaya önem vermektedir.

10. Bütün insanlar ölümlüdür.

Ali de bir insandır.
O hâlde Ali de ölümlüdür.

Bu önermeler aşağıdakilerden hangisine örnek oluşturmaktadır?

- A) İcmaya
B) Kıyasa
C) Tümevarıma
D) Tümdengelimine

11. **Aşağıdakilerden hangisi "vâcib li-zâtihi" ile ilgili değildir?**

- A) Yokluğu düşünülemez, varlığı zorunludur.
B) Ezelî olanın ebedî olması da zorunludur.
C) Var olmak için bir sebebe muhtaçtır.
D) Birleşik bir varlık değildir, mutlaktır.

(825) OSMANLI TÜRKÇESİ – 1

1. • Herhangi bir abidenin dış cephesinde yer alır.
• İlk örnekleri Hafız Osman tarafından tertip edilir.
• Güvenilir hadis rivayetlerinden alınan bilgilere dayanır.

Bu cümleler "hilye" ile ilgili doğru (D)-yanlış (Y) olarak değerlendirildiğinde sıralama aşağıdakilerden hangisi olur?

- A) D - Y - Y B) D - Y - D
C) Y - D - D D) Y - D - Y

2. **Osmanlı Türkçesi ile ilgili aşağıdakilerden hangisi söylenemez?**

- A) XIII. yüzyıldan XX. yüzyılın başlarına kadar kullanılmaya devam eder.
B) Arap harflerini temel alan Türkçe yazı dilidir.
C) İçerisinde çok sayıda Arapça ve Farsça kelime vardır.
D) Günümüzdeki Kuzeydoğu Türkçesinin ilk biçimidir.

3. **"ق" harfinin ismi aşağıdakilerden hangisidir?**

- A) Ayın B) Gayın
C) Dad D) Kaf

4. **Aşağıdaki harflerden hangisi "h" sesini karşılamaz?**

- A) ح B) ف C) ه D) خ

1. OTURUM

5. Aşağıdakilerden hangisi Osmanlı Türkçesi alfabesindeki bir harfin kelime sonundaki yazılışı değildir?

- A) ع B) ف
C) م D) ك

6. Aşağıdakilerin hangisi kendinden sonra gelen harfle birleşir?

- A) ا B) و C) ر D) ج

7. Aşağıdaki sayılardan hangisinin Türkiye Türkçesiyle okunuşu yay araç içerisinde yanlış verilmiştir?

- A) ۱۱ (On bir)
B) ۱۵ (On beş)
C) ۱۹ (On altı)
D) ۱۳ (On üç)

8. دال صارقار () قارتال قالقار .
Bu cümlede yay araçla gösterilen yere aşağıdaki noktalama işaretlerinden hangisi getirilmelidir?

- A) ، B) ؛ C) ؟ D) -

9. Aşağıdakilerden hangisi Osmanlı Türkçesi alfabesinde yer alan okutucu harflerden herhangi birinin ismi değildir?

- A) Elif B) Kef
C) He D) Ye

10. I. دوه
II. گيجه
III. تره
IV. سوره

Numaralanmış kelimelerin hangilerinde sadece he okutucusu kullanılmıştır?

- A) I ve III B) I ve IV
C) II ve III D) II ve IV

11. Bazı eklerin sonundaki “u, ü” sesleri “ye” okutucusu ile gösterilir.

Aşağıdakilerin hangisinde bu kurala uygun kelime yoktur?

- A) كلیمجی B) بولدی
C) بوغولی D) گوکلی

(931) SİYER – 1

1. Hz. Muhammed (sav); ibadetlerin yerine getiriliş şekli, günlük hayatla ilgili kurallar ve aile hayatı gibi birçok konuda insanlara en güzel örnek olmuştur.

Bu cümle Hz. Muhammed'in (sav) aşağıdaki özelliklerinden hangisi ile ilgilidir?

- A) El-Emin olarak adlandırılması
B) Ebu'l-Kâsım olarak anılması
C) Hâtem'ül Enbiyâ olması
D) Üsve-i hasene olması

2. Aşağıdakilerden hangisi Kütüb-i Sitte'de yer alan eserlerin müelliflerinden biridir?

- A) Ahmed bin Hanbel
B) İmam Mâlik
C) Ebu Dâvûd
D) Dârimî

3. Hz. Muhammed (sav) ile ilgili “şemal ve hilye” türünde yazılan eserlerin konusu aşağıdakilerden hangisidir?

- A) Aile hayatı
B) Dış görünüşü
C) Katıldığı seferler
D) Diplomatik ilişkileri

4. Aşağıdakilerden hangisi İslamiyet'ten önce Arap Yarımadası'nda yaşayan bedeviler ile ilgili doğru bir bilgi değildir?

- A) Geçimlerini tarım ile sağladıkları
B) Geleneklerine bağlı oldukları
C) Çölde konargöçer olarak yaşadıkları
D) Hayat şartları gereği iyi birer savaşçı oldukları

5. Aşağıdakilerden hangisi Cahiliye Dönemi'nde savaşın yasak olduğu aylardan biri değildir?

- A) Zilkâde B) Zilhicce
C) Şevval D) Muharrem

6. “Ekin bitmeyen vadi” olarak nitelenen şehir aşağıdakilerden hangisidir?

- A) Taif B) Şam
C) Yesrib D) Mekke

7. Hicaz'ın iklim olarak en soğuk şehridir. Yaz aylarında serin havası sebebiyle Mekke'nin önde gelen insanları için yazlık şehir olma özelliği taşımaktadır. Zengin su kaynaklarına ve verimli topraklara sahiptir.

Bu metinde hakkında bilgi verilen şehir aşağıdakilerden hangisidir?

- A) Taif B) Tebük
C) Yesrib D) Yemame

8. Kusay bin Kilâb ile ilgili aşağıdakilerden hangisi yanlıştır?

- A) Hz. Muhammed'in (sav) atalarındandır.
B) Kâbe hizmetlerini düzenleyip hac ibadetini organize etmiştir.
C) Kâbe'yi yıkmak için gelen Yemen ordusunu bozguna uğratmıştır.
D) Dağınık hâlde yaşayan Kureyşlileri birleştirerek Mekke şehir devletini kurmuştur.

9. Aşağıdakilerden hangisi Hz. Muhammed'in (sav) isimlerinden biri değildir?

- A) Mâhî B) Üneyse
C) Ahmed D) Âkîb

10. “Şüphesiz, biz seni hak ile desteklemiş bir müjdecî ve uyarıcı olarak gönderdik...”

(Bakara suresi, 119. ayet)

Bu ayet, peygamberlerin sıfatlarından hangisi ile ilgilidir?

- A) Fetanet B) İsmet
C) Sıdk D) Tebliğ

1. OTURUM

11. Hz. Muhammed (sav) gençliğinde katıldığı bu uygulamadan hep övgüyle bahsetmiş ve çok değerli kızıl tüylü bir deve sürüsüyle de olsa değişmeyeceğini bildirmiştir.

Bu cümlede aşağıdakilerden hangisi hakkında bilgi verilmiştir?

- A) Akabe Biati
B) Medine Sözleşmesi
C) Hılfü'l-Fudûl
D) Dâru'l Erkam

(974) SEÇMELİ GİRİŞİMCİLİK – 1

1. Aşağıdakilerden hangisi ekonomi biliminin ilgi alanına **girmez**?

- A) Adil bir dünyada yaşama
B) İşletmeye nitelikli iş gücü arama
C) Mal ve hizmet üretme
D) Düzenli bir gelire sahip olma

2. Tabiatta bulunan toprak, orman, maden vb. kaynaklar aşağıdaki üretim faktörlerinden hangisine ait örneklerdir?

- A) Girişimci B) Sermaye
C) Emek D) Doğa

3. Arz, talep, piyasa, fiyat aşağıdaki bilim dallarından hangisiyle ilgili kavramlardır?

- A) Psikoloji B) Sosyoloji
C) Ekonomi D) Mantık

4. Aşağıdakilerden hangisi yaratıcılığın önemli unsurlarından biridir?

- A) Strateji B) Taklit
C) Orijinallik D) Sponsor

5. Aşağıdakilerden hangisi girişimcinin verimliliğini artırarak piyasada tutunabilmesini sağlayan unsurlardan dandır?

- A) Rekabetçi düşünme
B) Yüksek kâr marjı
C) Fason üretim
D) Ürün taklitçiliği

6. İşletme içinde bir fikri, risk alma ve yenilik yapma yoluyla kârlı nihai bir ürüne dönüştürme sorumluluğunu üstlenen aşağıdakilerden hangisidir?

- A) Franchising B) İç girişimci
C) Federasyon D) Finansman

7. Sosyal girişimciliğin oluşturduğu en önemli ekonomik değer aşağıdakilerden hangisidir?

- A) Genç nüfusta artış sağlaması
B) İstihdam oluşturması
C) İthalatı artırması
D) Kültürel çeşitliliği artırması

8. Türkiye'de arama ve kurtarma ekibi olarak bilinen sosyal girişimcilik faaliyetini yürüten kuruluşun kısaltması aşağıdakilerden hangisidir?

- A) AKUT B) TEMA
C) ÇEKÜL D) LÖSEV

9. Aşağıdakilerden hangisi mal ve hizmet üretebilmek için gerekli bilgi, beceri ve deneyim olarak tanımlanır?

- A) Sermaye
B) Teknik bilgi
C) Motivasyon
D) İnisiyatif

10. Aşağıdaki bireylerden hangisi başkalarından emir almadan çalışma fırsatını yakalar?

- A) Öz güveni yetersiz olan
B) Sabit geliri yeterli gören
C) Risk almaktan kaçınan
D) Kendi işinin patronu olan

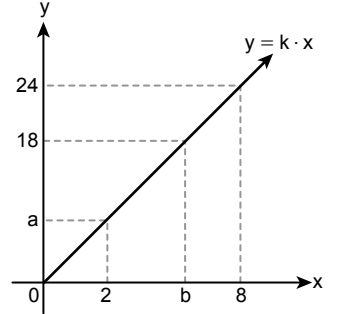
11. Var olan işe değişiklikler getirmek girişimci için büyük bir fırsat olabilir.

Bu durumun gerçekleşmesi için aşağıdakilerden hangisi yapılmalıdır?

- A) Eski iş fikirlerinin yapılan yeniliklerle daha cazip hâle getirilmesi
B) İş yaşamındaki mevcut eğilimlerin takip edilmesi
C) Fizibilite çalışması yapmadan pazara giriş yapılması
D) Fikirlerin kendine saklanması

(999) MATEMATİK – 2

1. Aşağıda $y = k \cdot x$ denkleminin grafiği verilmiştir.



Buna göre, $a + b$ kaçtır?

- A) 10 B) 12 C) 16 D) 17

2. Selim'in parası, Zeynep'in parasının 3 katıdır. Selim, Zeynep'e 200 lira verirse, Selim'in parası Zeynep'in parasının 2 katı oluyor.

Buna göre, Selim'in başlangıçtaki parası kaç liradır?

- A) 1800 B) 1200
C) 600 D) 360

3. Bir çiftlikte 60 tavuk ve bu tavuklara 45 gün yetecek kadar yem vardır. Tavuklara her gün eşit miktarda yem verilecektir.

Tavuklara yem verilmeye başlandıktan 10 gün sonra bu çiftlikteki tavuklardan kaç satılırsa geriye kalan yem, satılmayan tavuklara 42 gün yeter?

- A) 8 B) 10 C) 12 D) 13

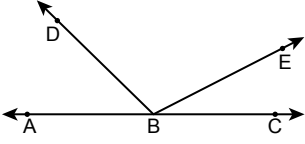
4. Tuz oranı %24 olan 120 litre tuzlu suyun $\frac{1}{4}$ 'i dökülüyor. Karışıma, dökülen miktar kadar tuz eklenerek yeni bir karışım elde ediliyor.

Buna göre, oluşan yeni karışımın tuz oranı yüzde kaç olur?

- A) 54 B) 52 C) 45 D) 43

1. OTURUM

5.

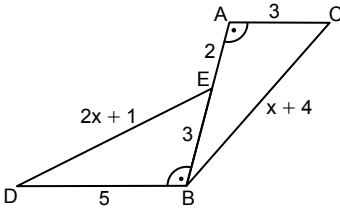


Şekilde A, B, C noktaları doğrusal ve $4 \cdot m(\widehat{ABD}) = 3 \cdot m(\widehat{DBE}) = 6 \cdot m(\widehat{EBC})$ tir.

Buna göre, $m(\widehat{DBC})$ kaç derecedir?

- A) 80 B) 100 C) 120 D) 140

6.

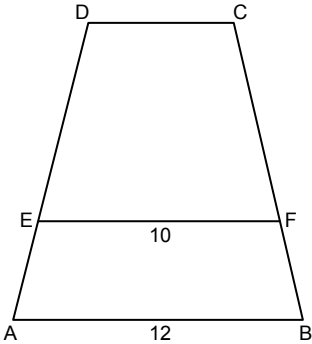


Şekilde A, E, B noktaları doğrusal, $m(\widehat{BAC}) = m(\widehat{DBE})$ ve $|AE| = 2$ cm, $|EB| = |AC| = 3$ cm, $|DB| = 5$ cm, $|DE| = (2x + 1)$ cm, $|BC| = (x + 4)$ cm'dir.

Buna göre, $|BC|$ kaç santimetredir?

- A) 3 B) 5 C) 6 D) 7

7.

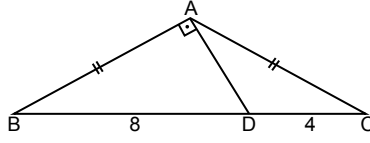


Şekilde $|AB| \parallel |EF| \parallel |DC|$ ve $2 \cdot |AE| = |ED|$, $|EF| = 10$ cm, $|AB| = 12$ cm'dir.

Buna göre, $|DC|$ kaç santimetredir?

- A) 4 B) 5 C) 6 D) 8

8.

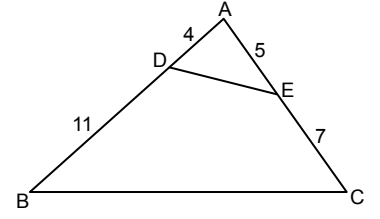


Şekildeki ABC üçgeninde, $|AB| = |AC|$, $[BA] \perp [AD]$ ve $|BD| = 8$ cm, $|DC| = 4$ cm'dir.

Buna göre, $|AD|$ kaç santimetredir?

- A) 3 B) 4 C) 5 D) 6

10.

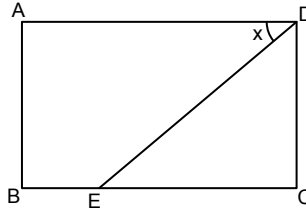


Şekildeki ABC ve ADE üçgenlerinde $|AD| = 4$ cm, $|DB| = 11$ cm, $|AE| = 5$ cm ve $|EC| = 7$ cm'dir.

Buna göre, $\frac{A(\widehat{ADE})}{A(\widehat{ABC})}$ kaçtır?

- A) $\frac{1}{9}$ B) $\frac{1}{3}$ C) $\frac{5}{12}$ D) $\frac{4}{5}$

9.



Şekilde ABCD bir dikdörtgen, $m(\widehat{ADE}) = x$ ve $5 \cdot |BE| = 2 \cdot |EC|$,

$2 \cdot |BE| = |CD|$ 'tir.

Buna göre, $\tan x$ kaçtır?

- A) $\frac{2}{5}$ B) $\frac{4}{7}$ C) $\frac{5}{7}$ D) $\frac{4}{5}$

11. x, 13, 15, 14, 15, 12, 15, 16 sayılarından oluşan veri grubunun modu aritmetik ortalamasına eşit olduğuna göre, x kaçtır?

- A) 10 B) 15 C) 20 D) 25

TEST BİTTİ.

CEVAPLARINIZI KONTROL EDİNİZ.

CEVAP KÂĞIDI VE SORU KİTAPÇIĞI İLE İLGİLİ AÇIKLAMALAR

1. Cevap kâğıdınızdaki bilgilerin doğruluğunu kontrol ediniz ve cevap kâğıdınızı imzalayınız.
2. Cevap kâğıdı üzerinde kodlamalarınızı siyah kurşun kalemle yapınız.
3. Değiştirmek istediğiniz bir cevabı, yumuşak silgiyle cevap kâğıdını yıpratmadan temizce siliniz ve yeni cevabınızı kodlayınız.
4. Soru kitapçığının sayfalarını görevlilerin uyarıları doğrultusunda kontrol ediniz, baskı hatası var ise değiştirilmesini sağlayınız.
5. Soruların çözümü için size ayrıca boş kâğıt verilmeyecektir. Soru kitapçığının içindeki boş alanları soru çözümleri için kullanabilirsiniz.
6. Her sorunun dört seçeneğinden sadece biri doğrudur. Doğru seçeneği, cevap kâğıdınızın ilgili sütununa soru numarasını dikkate alarak yuvarlağın dışına taşımadan kodlayınız. Soru kitapçığı üzerinde yapılan cevaplandırmalar dikkate alınmayacaktır.
7. Cevaplamaya istediğiniz dersin sorusundan başlayabilirsiniz. Cevabını bilmediğiniz sorular üzerinde fazla zaman kaybetmeden diğer sorulara geçiniz. Zamanınız kalırsa bu sorulara daha sonra dönebilirsiniz.
8. Yanlış cevaplarınız dikkate alınmadan sadece doğru cevaplarınız üzerinden puanlama yapılacaktır.
9. Soruları ve sorulara verdiğiniz cevapları, yanınızda götürmek amacıyla kaydetmeyiniz; hiçbir şekilde dışarı çıkarmayınız.
10. Sınav bitiminde soru kitapçığı ve cevap kâğıdını salon görevlilerine teslim ediniz.
11. Aday tarafından cevap kâğıdına yazılması veya işaretlenmesi gereken bilgilerde eksiklik ya da yanlışlık olması durumunda sorumluluk adaya ait olacaktır.

SALON GÖREVLİLERİNCE SINAV BAŞLAMADAN ÖNCE ADAYLARA YAPILACAK SON UYARILAR

- Soracağınız bir şey varsa şimdi sorunuz, sınav başladıktan sonra sorularınıza cevap verilmeyecektir.
- Başlama zilini bekleyiniz.

Hepinize başarılar dileriz.

(Salon başkanı başlama ve bitiş saatini tahtaya yazacaktır.)

Bu kitapçığın her hakkı saklıdır. Hangi amaçla olursa olsun, kitapçığın tamamının veya bir kısmının Millî Eğitim Bakanlığı Ölçme, Değerlendirme ve Sınav Hizmetleri Genel Müdürlüğü'nün yazılı izni olmadan kopya edilmesi, fotoğraflarının çekilmesi, bilgisayar ortamına alınması, herhangi bir yolla çoğaltılması, yayımlanması veya başka bir amaçla kullanılması yasaktır. Bu yasağa uymayanlar, doğabilecek cezai sorumluluğu ve kitapçığın hazırlanmasındaki mali külfeti peşinen kabullenmiş sayılır.

16 MART 2024 TARİHİNDE YAPILAN AÇIK ÖĞRETİM LİSESİ / MESLEKİ AÇIK ÖĞRETİM LİSESİ /
AÇIK ÖĞRETİM İMAM HATİP LİSESİ
2023-2024 ÖĞRETİM YILI 2. DÖNEM SINAVI 1. OTURUM T KİTAPÇIĞI CEVAP ANAHTARI

(111) DİN KÜL. AHL. BİL. – 1

1. B
2. C
3. B
4. A
5. C
6. B
7. D
8. C
9. A
10. D
11. D

(125) FELSEFE – 3

1. D
2. C
3. D
4. B
5. A
6. C
7. B
8. C
9. D
10. A
11. B

(155) SEÇMELİ COĞRAFYA – 1

1. C
2. A
3. B
4. B
5. D
6. D
7. B
8. D
9. A
10. C
11. C

(181) FRANSIZCA – 1

1. C
2. A
3. D
4. C
5. A
6. B
7. C
8. D
9. B
10. B
11. D

(112) DİN KÜL. AHL. BİL. – 2

1. D
2. B
3. C
4. B
5. A
6. C
7. A
8. B
9. D
10. B
11. A

(132) TARİH – 2

1. C
2. A
3. C
4. D
5. B
6. C
7. D
8. A
9. B
10. D
11. B

(157) SEÇMELİ COĞRAFYA – 3

1. C
2. A
3. B
4. B
5. D
6. A
7. D
8. A
9. C
10. B
11. D

(195) SEÇMELİ ORTAK TÜRK
TARİHİ – 1

1. B
2. C
3. A
4. D
5. C
6. A
7. C
8. B
9. D
10. C
11. D

(115) DİN KÜL. AHL. BİL. – 5

1. D
2. B
3. A
4. B
5. B
6. D
7. C
8. D
9. C
10. A
11. C

(136) SEÇMELİ TARİH – 2

1. B
2. C
3. A
4. B
5. D
6. C
7. C
8. D
9. A
10. B
11. D

(181) İNGİLİZCE – 1

1. C
2. A
3. B
4. A
5. D
6. D
7. A
8. C
9. B
10. D
11. C

(222) SAĞLIK BİLGİSİ VE
TRAFİK KÜLTÜRÜ – 2

1. D
2. B
3. A
4. C
5. C
6. D
7. A
8. B
9. C
10. C
11. D

(121) FELSEFE – 1

1. B
2. D
3. A
4. C
5. B
6. C
7. A
8. B
9. A
10. D
11. C

(151) COĞRAFYA – 1

1. D
2. A
3. C
4. B
5. A
6. A
7. B
8. B
9. D
10. C
11. D

(181) ALMANCA – 1

1. B
2. D
3. B
4. C
5. A
6. C
7. D
8. A
9. C
10. A
11. B

(244) İNGİLİZCE – 5

1. C
2. D
3. A
4. B
5. B
6. D
7. A
8. B
9. C
10. A
11. D

16 MART 2024 TARİHİNDE YAPILAN AÇIK ÖĞRETİM LİSESİ / MESLEKİ AÇIK ÖĞRETİM LİSESİ /
AÇIK ÖĞRETİM İMAM HATİP LİSESİ
2023-2024 ÖĞRETİM YILI 2. DÖNEM SINAVI 1. OTURUM T KİTAPÇIĞI CEVAP ANAHTARI

(244) ALMANCA – 5

1. A
2. B
3. D
4. B
5. C
6. B
7. D
8. A
9. C
10. A
11. D

(432) KİMYA – 2

1. A
2. D
3. D
4. B
5. A
6. A
7. C
8. A
9. B
10. D
11. C

(446) SEÇMELİ BİYOLOJİ – 2

1. B
2. B
3. D
4. C
5. C
6. B
7. D
8. D
9. C
10. A
11. C

(502) ALMANCA – 8

1. D
2. A
3. C
4. A
5. B
6. A
7. B
8. C
9. D
10. C
11. B

(244) FRANSIZCA – 5

1. B
2. C
3. D
4. D
5. B
6. C
7. B
8. C
9. A
10. A
11. C

(436) SEÇMELİ KİMYA – 2

1. C
2. C
3. D
4. B
5. C
6. B
7. C
8. C
9. A
10. D
11. A

(465) TEMEL DİNİ BİL.– 1

1. A
2. B
3. D
4. C
5. B
6. A
7. C
8. D
9. B
10. B
11. C

(502) FRANSIZCA – 8

1. D
2. B
3. C
4. B
5. C
6. D
7. A
8. A
9. A
10. B
11. D

(421) FİZİK – 1

1. B
2. A
3. D
4. C
5. C
6. B
7. D
8. C
9. A
10. B
11. D

(441) BİYOLOJİ – 1

1. D
2. B
3. A
4. D
5. C
6. B
7. B
8. D
9. C
10. B
11. C

(479) SEÇMELİ MANTIK – 2

1. A
2. D
3. C
4. B
5. C
6. D
7. A
8. B
9. B
10. C
11. A

(511) FİKİH – 1

1. B
2. A
3. B
4. C
5. D
6. C
7. A
8. B
9. D
10. C
11. C

(425) SEÇMELİ FİZİK – 1

1. A
2. B
3. C
4. A
5. D
6. C
7. B
8. D
9. D
10. B
11. C

(443) BİYOLOJİ – 3

1. B
2. A
3. D
4. C
5. A
6. C
7. B
8. B
9. C
10. D
11. C

(502) İNGİLİZCE – 8

1. B
2. A
3. C
4. A
5. D
6. B
7. C
8. A
9. D
10. C
11. B

(532) SEÇMELİ
PEYGAMBERİMİZİN HAYATI – 2

1. B
2. A
3. D
4. C
5. B
6. D
7. A
8. A
9. C
10. B
11. D

16 MART 2024 TARİHİNDE YAPILAN AÇIK ÖĞRETİM LİSESİ / MESLEKİ AÇIK ÖĞRETİM LİSESİ /
AÇIK ÖĞRETİM İMAM HATİP LİSESİ
2023-2024 ÖĞRETİM YILI 2. DÖNEM SINAVI 1. OTURUM T KİTAPÇIĞI CEVAP ANAHTARI

(535) SEÇMELİ
PEYGAMBERİMİZİN HAYATI – 5

1. C
2. D
3. B
4. C
5. B
6. D
7. C
8. A
9. A
10. C
11. D

(548) TÜRK DİLİ VE
EDEBİYATI – 8

1. D
2. B
3. A
4. C
5. A
6. B
7. C
8. D
9. B
10. A
11. D

(622) SEÇMELİ TÜRK DİLİ VE
EDEBİYATI – 4

1. A
2. C
3. D
4. B
5. D
6. A
7. D
8. A
9. B
10. C
11. B

(825) OSMANLI TÜRKÇESİ – 1

1. C
2. D
3. D
4. B
5. C
6. D
7. C
8. A
9. B
10. A
11. A

(537) SEÇMELİ
PEYGAMBERİMİZİN HAYATI – 7

1. C
2. A
3. C
4. B
5. B
6. A
7. D
8. A
9. C
10. A
11. B

(609) SEÇMELİ MATEMATİK – 2

1. B
2. C
3. B
4. D
5. C
6. D
7. C
8. A
9. D
10. A
11. A

(713) İSLAM KÜLTÜR VE
MEDENİYETİ – 1

1. D
2. B
3. A
4. C
5. A
6. D
7. D
8. B
9. C
10. A
11. C

(931) SİYER – 1

1. D
2. C
3. B
4. A
5. C
6. D
7. A
8. C
9. B
10. D
11. C

(544) TÜRK DİLİ VE
EDEBİYATI – 4

1. A
2. D
3. B
4. D
5. A
6. C
7. A
8. C
9. C
10. D
11. B

(611) DİNLER TARİHİ – 1

1. D
2. B
3. A
4. C
5. A
6. D
7. A
8. C
9. D
10. B
11. A

(817) AKAİD – 1

1. A
2. D
3. B
4. C
5. B
6. D
7. B
8. A
9. D
10. C
11. C

(974) SEÇMELİ
GİRİŞİMCİLİK – 1

1. A
2. D
3. C
4. C
5. A
6. B
7. B
8. A
9. B
10. D
11. A

(547) TÜRK DİLİ VE
EDEBİYATI – 7

1. A
2. B
3. D
4. B
5. A
6. C
7. B
8. D
9. A
10. D
11. C

(621) SEÇMELİ TÜRK DİLİ VE
EDEBİYATI – 3

1. D
2. B
3. C
4. B
5. C
6. D
7. C
8. B
9. A
10. D
11. A

(819) KELAM – 1

1. D
2. A
3. B
4. C
5. A
6. D
7. B
8. C
9. A
10. D
11. C

(999) MATEMATİK – 2

1. B
2. A
3. B
4. D
5. C
6. D
7. C
8. B
9. D
10. A
11. C