



T.C.
MILLÎ EĞİTİM BAKANLIĞI
ÖLÇME, DEĞERLENDİRME VE
SINAV HİZMETLERİ GENEL MÜDÜRLÜĞÜ

AÇIK ÖĞRETİM LİSESİ / MESLEKİ AÇIK ÖĞRETİM LİSESİ /
AÇIK ÖĞRETİM İMAM HATİP LİSESİ
2023 - 2024 ÖĞRETİM YILI
2. DÖNEM SINAVI

2.
OTURUM

16 MART 2024 Saat: 14.00

DERS KODU VE ADI	SAYFA	DERS KODU VE ADI	SAYFA	DERS KODU VE ADI	SAYFA
(117) DİN KÜL. AHL. BİL. - 7	3	(243) İNGİLİZCE - 4	19	(501) FRANSIZCA - 7	34
(118) DİN KÜL. AHL. BİL. - 8	3	(243) ALMANCA - 4	19	(512) FIKIH - 2	35
(126) FELSEFE - 4	4	(243) FRANSIZCA - 4	20	(531) SEÇMELİ	
(131) TARİH - 1	5	(422) FİZİK - 2	21	PEYGAMBERİMİZİN HAY. - 1	36
(135) SEÇMELİ TARİH - 1	6	(423) FİZİK - 3	22	(536) SEÇMELİ	
(137) TARİH - 5	7	(424) FİZİK - 4	23	PEYGAMBERİMİZİN HAY. - 6	37
(141) T.C. İNK. TAR. ATA. - 1	8	(431) KİMYA - 1	24	(538) SEÇMELİ	
(152) COĞRAFYA - 2	9	(437) SEÇMELİ KİMYA - 3	25	PEYGAMBERİMİZİN HAY. - 8	39
(156) SEÇMELİ COĞRAFYA - 2	10	(438) SEÇMELİ KİMYA - 4	26	(541) TÜRK DİLİ VE ED. - 1	40
(164) MATEMATİK - 4	11	(442) BİYOLOJİ - 2	27	(612) DİNLER TARİHİ - 2	41
(182) İNGİLİZCE - 2	12	(444) BİYOLOJİ - 4	27	(714) İSLAM KÜLTÜR VE	
(182) ALMANCA - 2	13	(447) SEÇMELİ BİYOLOJİ - 3	28	MEDENİYETİ - 2	41
(182) FRANSIZCA - 2	13	(451) SEÇ. ÇAĞDAŞ TÜRK		(818) AKAİD - 2	42
(196) SEÇMELİ ORTAK TÜRK		VE DÜNYA TARİHİ - 1	29	(820) KELAM - 2	43
TARİHİ - 2	14	(455) SEÇ. DEM. VE İNSAN HAK. - 1	30	(826) OSMANLI TÜRKÇESİ - 2	44
(207) SEÇMELİ PSİKOLOJİ - 2	15	(466) TEMEL DİNİ BİLGİLER - 2	31	(932) SİYER - 2	45
(208) SEÇMELİ SOSYOLOJİ - 1	17	(467) SEÇMELİ MATEMATİK - 3	32	(998) MATEMATİK - 1	46
(221) SAĞLIK BİLGİSİ VE		(501) İNGİLİZCE - 7	33		
TRAFİK KÜLTÜRÜ - 1	18	(501) ALMANCA - 7	34		

ADAYLARIN DİKKATİNE!

- Her ders için 11 soru bulunmaktadır. Bu oturumda **100** dakikalık cevaplama süreniz vardır. Sınavın ilk **30** dakikası tamamlanmadan ve sınav bitimine **15** dakika kala salon dışına çıkmayınız.
- Kullanımı doktor raporu ile belirlenen hasta veya engellilere ait cihazlar ve ilaçlar, anahtarlıksız basit anahtar, ulaşım kartları, para, alyans, şeffaf pet şişe içerisinde bandajı çıkarılmış su ve şeffaf numaralı gözlük hariç; her türlü kesici ve delici alet, ateşli silah, çanta, cüzdan, cep telefonu, her türlü saat, anahtarlık, elektronik anahtar, kablosuz iletişim sağlayan cihaz, kulaklık, kolye, küpe, bilezik, yüzük, broş ve diğer takılar, her türlü plastik, metal ve cam eşya, banka kredi kartları, her türlü elektronik ve mekanik cihaz, her türlü müsvedde kâğıt, defter, ders notu, kitap, sözlük, dergi, gazete ve benzeri yayınlar, cetvel, pergel, açılöçer ve benzeri araçlar, yiyecek, içecek ve diğer tüketim maddeleri yanınızda bulundurmayınız. Bu araçları/maddeleri yanınızda bulundurmanız ve kopya çekmeye teşebbüs etmeniz hâlinde sınavınız geçersiz sayılacaktır.
- Başvuru şartlarını taşımadığınız hâlde sınava girmeniz, kopya çekmeniz, başka adayın sınav evrakını kullanmanız ve geçerli kimlik belgenizi ibraz edemediğiniz durumlarda sınavınız geçersiz sayılacaktır.
- Sınavın değerlendirilmesi aşamasında, bilgisayar ortamında yapılan kopya analizinde sistemin ikili ve/veya toplu kopya tespiti hâlinde sınavınız geçersiz sayılacaktır.
- Adaylar, sınav kurallarına ve salon görevlilerinin tüm uyarılarına uymak zorundadır. Kurallara ve uyarılara uymayan adayların sınavları geçersiz sayılacaktır.**
- Sınav başladıktan sonra adayların salon görevlileri ve birbirleri ile konuşmaları; kalem, silgi vb. şeyleri istemeleri yasaktır.
- Adaylar sınav süresince, sınav giriş belgesi ile geçerli kimlik belgelerinden birini masalarının üzerinde bulundurmak zorundadır.
- Sınav evraklarını teslim etmeyen, soru kitapçıklarının sayfalarından bir kısmını eksik teslim edenlerin sınavları geçersiz sayılacaktır.**
- Sınav başlamadan önce kitapçığın arkasındaki açıklamaları okuyunuz.

BAŞLAYINIZ DENMEDEN SORU KİTAPÇIKLARINI AÇMAYINIZ.



2. OTURUM

(117) DİN KÜL. AHL. BİL. – 7

1. Kâinattaki fiziksel ve biyolojik yasaları yaratan Allah'tır. İnsan, bilim sayesinde hem içinde yaşadığı bu yasaları anlama hem de elde ettiği bu bilgileri tekniğe dönüştürerek hayatı kolaylaştırma çabası içindedir. İslam dini de insanın bu çabasını destekler.

Bu metinde hangi kavramlar arasındaki ilişkiden bahsedilmektedir?

- A) Din ve tarih
B) Din ve bilim
C) İnsan ve toplum
D) Kader ve kaza

2. Kur'an'da sıkça geçen "ibret almak, düşünmek ve anlamak" gibi ifadeler ile aşağıdakilerden hangisinin önemi vurgulanmaktadır?

- A) Emeğin B) İradenin
C) Ahlakın D) Aklın

3. Halife Memun, Bağdat'ta kütüphane, akademi ve tercüme merkezinden oluşan bir müesseseye kurdu. Bu sayede Müslümanlar tercüme faaliyetlerinin yanında matematik, astronomi, coğrafya, fizik, kimya, tıp, biyoloji gibi bilim dallarında ilerlediler.

Bu metinde bahsedilen kurum aşağıdakilerden hangisidir?

- A) Darüşşifa B) Beytülhikme
C) Darülhikme D) Beytülmal

4. "Doğruluğunda şüphe olmayan bu kitap, gûnahtan sakınanlar için bir rehberdir."

(Bakara suresi, 2. ayet)

Bu ayette vahyin aşağıdaki özelliklerinden hangisi vurgulanmaktadır?

- A) İnsanları doğru davranışa götürdüğü
B) Melek aracılığıyla peygambere ulaştırıldığı
C) Allah ile insan arasında iletişim kurma yolu olduğu
D) Gönderildiği toplumun diliyle indirildiği

5. Abbasiler, mevaliye karşı iyi davranmış, orduda Türklere önemli yetkiler vermiş ve onlarla iyi ilişkiler kurmuştur.

Bu durum aşağıdaki olaylardan hangisinin gerçekleşmesini doğrudan etkilemiştir?

- A) İstanbul'un fethini
B) İslami ilimlerin gelişmesini
C) Türklerin Müslüman olmasını
D) Hilafetin Türklere geçmesini

6. • Kur'an-ı Kerim'in dördüncü suresidir.
• Medine'de nazil olmuştur.
• Kadınların ekonomik ve sosyal haklarından bahsetmektedir.

Bu bilgilerin tamamı aşağıdaki surelerin hangisine aittir?

- A) Bakara B) Nisa
C) Hucurat D) Maide

7. "Müminler ancak kardeşler, öyleyse kardeşlerinizin arasını düzeltin, Allah'a itaatsizlikten sakının ki size merhamet edilsin."

(Hucurat suresi, 10. ayet)

Bu ayette asıl anlatılmak istenen aşağıdakilerden hangisidir?

- A) Aynı anne ve babadan doğan kimseler birbirleriyle iyi geçinmelidir.
B) Müslümanlar, birbirleri arasındaki farklılıkları kültürel zenginlik olarak kabul etmelidir.
C) Müslümanlar arasındaki sorunlar uygun bir şekilde çözümlenmelidir.
D) Müminler ibadetlerinde Allah'ın rızasını gözetmelidir.

8. Türkçenin gelişimine ve kullanımına katkısıyla öne çıkan mutasavvıf aşağıdakilerden hangisidir?

- A) Mevlana
B) Ahi Evran
C) Yunus Emre
D) Sarı Saltuk

9. Ahi Evran ile ilgili aşağıdakilerden hangisi doğrudur?

- A) Balkan coğrafyasında yetişmiştir.
B) İtikadi mezhep kurucularından biridir.
C) Osmanlı Devleti'nde şeyhülislamlık yapmıştır.
D) Anadolu'da ilk esnaf teşkilatını kurmuştur.

10. Tasavvuf düşüncesinde "dervişin, elindekilerinin gerçek sahibi olmadığı bilinci ile hareket etmesi" aşağıdakilerden hangisi ile ifade edilir?

- A) Fakr B) Halvet
C) Zikir D) İhsan

11. Düşüncelerinde "Ehlibeyt sevgisini" ön plana çıkaran tasavvufi yorum aşağıdakilerden hangisidir?

- A) Nakşibendilik
B) Alevilik-Bektaşilik
C) Rifailik
D) Kadirilik

(118) DİN KÜL. AHL. BİL. – 8

1. Aşağıdaki ayetlerden hangisi "dinin korunması" ilkesiyle doğrudan ilgilidir?

- A) "... Kim bir can kurtarırsa bütün insanların hayatını kurtarmış gibi olur..."

(Maide suresi, 32. ayet)

- B) "De ki: 'Ey inkârcılar! Ben sizin tapmakta olduğunuz şeylere tapmam.'" "

(Kâfirun suresi, 1 ve 2. ayetler)

- C) "Ey iman edenler! Belli bir süre için birbirinize borçlandığınız zaman bunu yazın..."

(Bakara suresi, 282. ayet)

- D) "İçinizdeki bekârlar arasından durumları uygun olanları evlendirin..."

(Nur suresi, 32. ayet)

2. OTURUM

2. Aşağıdakilerden hangisi İslam'ın iktisadi hayatla ilgili anlayışını yansıtmaz?

- A) Helal yollardan mülk edinmeyi meşru görür.
- B) Hukuki düzenlemelerle mülkiyeti güvence altına alır.
- C) Varlıklı insanları, yoksulları desteklemeye teşvik eder.
- D) İnsanı, serveti nedeniyle değerli kabul eder.

3. "Ey iman edenler! Aranızda mallarınızı haksız yollar ile yemeyin. Bu konuda izleyeceğiniz yol, karşılıklı rızaya dayanan ticarettir..."

(Nisa suresi, 29. ayet)

Bu ayetin mesajı aşağıdakilerden hangisi ile doğrudan ilgilidir?

- A) İnfak etmek
- B) Kanaatkâr olmak
- C) Alçak gönüllülük
- D) Helal kazanç

4. İslam dinine göre hangi özellikteki gıdalar kesinlikle yasaklanmıştır?

- A) Protein ve vitamin içeren
- B) Akıl ve beden sağlığını tehdit eden
- C) Tüketilmesi örf ve âdetlere uygun olan
- D) Tedavi için ilaç niyetine kullanılan

5. "Haram, Allah'ın kitabında haram kıldıklarıdır. Helal, Allah'ın kitabında helal kıldıklarıdır. Hakkında açıklama bulunmayanlar ise sizleri serbest bıraktıklarıdır."

Bu hadiste altı çizili bölüm aşağıdakilerden hangisiyle ifade edilir?

- A) Müekked
- B) Mendup
- C) Mübah
- D) Mekruh

6. "Hinduizm'de doğum-ölüm-yeniden doğuş döngüsünü" ifade eden kavram aşağıdakilerden hangisidir?

- A) Samsara
- B) Padma
- C) Smriti
- D) Şruti

7. Hinduizm'de Tanrı Şiva'nın evi olarak kabul edilen kutsal mekân aşağıdakilerden hangisidir?

- A) Ganj Nehri
- B) Beranes
- C) Meru Dağı
- D) Himalayalar

8. Budizm'e göre "Sekiz Dilimli Yol" insanı aşağıdakilerden hangisine ulaştırır?

- A) Nirvanaya
- B) Dört yüce hakikate
- C) Beş erdeme
- D) Tao'ya

9. Taoizm'le ilgili aşağıdakilerden hangisi yanlıştır?

- A) Çin'in millî dinlerinden biridir.
- B) Kurucusu Lao-tzu'dur.
- C) Karma inancı vardır.
- D) Mistik bir hayat tarzını öğütler.

10. MÖ 6. yüzyılda Çin'de yaşamıştır. Hayatı boyunca ahlak temelli yeni bir sosyal düzen kurmak ve sağlam bir toplum inşa etmek için büyük çaba sarf etmiştir. Öğretileri Çin'in tarihini ve kültürünü günümüze kadar etkilemiştir.

Hakkında bilgi verilen kişi aşağıdakilerden hangisidir?

- A) Konfüçyüs
- B) Guru Nanak
- C) Siddharta Gautama
- D) Kral Aşoka

11. I. Mandala
II. Om
III. Trisula
IV. Dua çarkı

Numaralanmış dinî sembollerden hangileri Budizm'e aittir?

- A) I ve II
- B) I ve IV
- C) II ve III
- D) III ve V

(126) FELSEFE – 4

1. Aşağıdakilerden hangisi 18 - 19. yüzyıl felsefesinin genel özelliklerindedir?

- A) Akla güven duyulmuş ve akılcı düşünceye önem verilmiştir.
- B) Bilim, Tanrı'nın yarattıklarını anlayabilmek için kullanılmıştır.
- C) Düşünce özgürlüğü geri planda tutulmuştur.
- D) Dinî otoritelerin düşünceleri daha çok benimsenmiştir.

2. "Bilginin sınırı var mıdır? İnsan nele- rin bilgisini bilebilir? Bir şeyi bilmek ne anlama gelmektedir?" soruları aşağıdaki felsefi konulardan hangisiyle ilgilidir?

- A) Birey-devlet ilişkisi
- B) Varlığın oluşu
- C) Bilginin kaynağı
- D) Ahlakın ilkeleri

3. İnsan haklarına verilen önemin ve değerinin artmasında aşağıdaki tarihsel olaylardan hangisinin katkısı olmamıştır?

- A) Veda Hutbesi
- B) Haçlı Seferleri
- C) İnsan Hakları Evrensel Bildirgesi
- D) İnsan ve Yurttaş Hakları Bildirgesi

4. I. Her zaman akıllı iradeni, evrensel bir yasa koyucu olarak görevde bulunacağı şekilde davran.

II. Öyle eylemde bulun ki eylemin gerisindeki maksim, herkes için geçerli evrensel bir yasa olsun.

III. Kendinde ve başkalarında insanlığı bir amaç olarak görececek şekilde değil de onu bir araç edinecek şekilde davran.

Numaralanmış Kant maksimlerinden hangileri yanlıştır?

- A) Yalnız III
- B) I ve II
- C) II ve III
- D) I, II ve III

2. OTURUM

5. Kant'a göre ödev; insanın kendi isteğiyle sorumluluğunu aldığı, koşulsuz, içten ve vicdani tarafından verilen emirlerdir. Ödev, bütün insanlar için geçerli olan ama kimsenin arzu ve isteklerine bağlı olmayan evrensel ahlak ilkesi taşıır. Dolayısıyla bir irade, ancak ödevi yerine getirdiği zaman iyi irade olur.

Buna göre, aşağıdaki davranışlardan hangisi Kant'ın ödev ahlakına uygundur?

- A) Tanınır olmak için yardıma muhtaç ailelere yapılan yardımı sosyal medya platformlarında paylaşmak
B) Denize düşen birini yardım çığlıklarına duyarsız kalınmadığı için denize atlayıp boğulmaktan kurtarmak
C) Açlıktan zayıf düşmüş bir sokak köpeğini evimi yabancılardan korur düşüncesiyle alıp beslemek
D) Kendisinin de yaşlanınca yardıma ihtiyacı duyacağı endişesi ile yaşlılara yardımcı olmaya çalışmak

6. Bentham'a göre kötülük, insanın yanlış tercihte bulunmasından kaynaklıdır. Haz ve acı arasında hesabını yeterince yapamayan insan, kötülüğün ortaya çıkmasına neden olur.

Buna göre, aşağıdakilerden hangisine ulaşılabilir?

- A) Kötülüğün var olmasının sebebi iyi olanın anlaşılabilmesidir.
B) İnsanlık haz ve acı arasında sürekli olarak seçim yapmak zorundadır.
C) İnsan, yanlış tercihlerinin sonuçlarından çıkardığı ders ile iyi olana yönelebilir.
D) Kötülüğün ortaya çıkmaması haz ve acı arasındaki kıyasın doğru yapılmasına bağlıdır.

7. Pozitivizm, olgunun dışında gerçek hiçbir şey olmadığını ve ancak deneye dayalı bilimsel bilginin, gerçeğin bilgisini içerdiğini savunur.

Buna göre, aşağıdakilerden hangisi pozitivizmin gerçek olarak kabul ettiği olgular arasında yer almaz?

- A) Beden B) Ruh
C) Atom D) Hava

8. • İnsanın söz ve eylemlerinin oluşturduğu ürün ve yapıların anlamına yönelik yorumlamadır.
• Tek tanrılı dinlerde özellikle kutsal metinlerin yorumlanmasına bağlı olarak ortaya çıkmış ve zamanla tüm metinlerde uygulanır olmuştur.

Bu özellikler 20. yüzyıl felsefesinin aşağıdaki temel problemlerinden hangisine aittir?

- A) Gerçeklik-görünüş
B) Değişim
C) Yorum
D) Metafizik bilgi

9. Kierkegaard'ın "Varoluş hiçbir zaman hazır değildir, oluş içinde olan insan sürekli yeni kararlar alıp seçimler yaparak kendini yeniden sentezler." düşüncesi, 20. yüzyıl felsefesinin aşağıdaki akımlarından hangisiyle ilgilidir?

- A) Fenomenoloji
B) Diyalektik materyalizm
C) Varoluşçuluk
D) Mantıkçı pozitivism

10. • Dile sahip olmadan insan ne öğrenebilir ne de öğretebilir.

• Bilgi; insan için bütün alanları ve dallarıyla insanı insan yapan, onun var olmasını, yaşamasını sağlayan her şeyi başarmaktadır.

• İnsan; aktif olan, yapıp-eden bir varlıktır fakat insanın yapıp-etmelerini gerçekleştirmesi onun, değerleri duyan bir varlık olmasına dayanır.

Takiyettin Mengüşoğlu'nun "İnsan Felsefesi" eserinden yapılan bu alıntılarda insanın aşağıdaki varlık alanlarından hangisine yer verilmemiştir?

- A) Bilen bir varlık olarak insan
B) Değerleri duyan bir varlık olarak insan
C) Konuşan bir varlık olarak insan
D) İnanan bir varlık olarak insan

11. Yaşadıkları coğrafyaya göre gruplandırıldığında aşağıdaki düşünürlerden hangisi dışta kalır?

- A) Muhammed İkbâl
B) Nurettin Topçu
C) Nermi Uygur
D) Macit Gökberk

(131) TARİH – 1

1. Bir atı; fizikçi, zoolog, veteriner, ekonomist, kimyacı, ressam incelense hepsi de atı farklı ve kendi bakış açılarından görece ve tanımlayacaklardır. Oysa tarihçi hem ata, hem atın sahibine, hem de atın içinde bulunduğu olaya kısacası resmin bütününe anlam vermeye çalışacaktır.

Bu bilgide, tarihçinin hangi özelliği vurgulanmaktadır?

- A) Konuları çok yönlü ve kapsamlı ele alması
B) Olayları neden-sonuç ilişkisine dayandırması
C) Verileri nesnel biçimde açıklaması
D) Araştırmalarında tarihî belgelerden yararlanması

2. Miladi takvim ile ilgili aşağıdaki bilgilerden hangisi yanlıştır?

- A) Başlangıcı 1 Ocak'tır.
B) Bir yıl 365 gün 6 saattir.
C) Kökeni Sümerlere dayanır.
D) Gregoryen takvimi de denir.

3. • Diyarbakır (Ergani) sınırları içerisinde yer alır.
• Tarihte bakır madeninin ilk kez işlendiği yer olarak kabul edilir.

Bu bilgiler, aşağıdaki arkeolojik kazı alanlarından hangisine aittir?

- A) Göbeklitepe
B) Çatalhöyük
C) Aslantepe
D) Çayönü

4. Roma yasalarını bir araya getirerek kendi adıyla anılan hukuki bir metin oluşturan Roma imparatoru aşağıdakilerden hangisidir?

- A) Commodius
B) Justinianus
C) Neron
D) Vespasiano

2. OTURUM

5. • Başkentleri Ninova'da ilk kütüphaneyi kurmuşlardır.
• Ticaret kolonileri aracılığı ile Anadolu'ya yazıyı taşıyarak Anadolu'da tarihi çağların başlamasını sağlamışlardır.

Hakkında bilgi verilen medeniyet aşağıdakilerden hangisidir?

- A) Lidya B) Soğd
C) Asur D) Akad

6. İlk Çağ'da sivil bir diktatörün yönetimi ele geçirmesiyle ortaya çıkan yönetim biçimi aşağıdakilerden hangisidir?

- A) Teokrasi B) Tiranlık
C) Oligarşi D) Cumhuriyet

7. İlahi dine bağlı bir hukuk sistemini ilk kez oluşturan İlk Çağ medeniyeti aşağıdakilerden hangisidir?

- A) Hitit B) Roma
C) Çin D) İbrani

8. Aşağıdakilerden hangisi Orta Asya'da göçebe bozkır yaşam tarzını benimseyen toplulukların özelliklerindedir?

- A) Temel geçim kaynakları tarımdır.
B) Ordu millet anlayışına sahiplerdir.
C) Toplumsal yapı kast sistemine dayalıdır.
D) Şehir mimarisinde gelişmişlerdir.

9. Bütün Moğol boylarını bir araya toplayan ve istila hareketleri ile dünyanın en geniş kara imparatorluğunu kuran Moğol hükümdarı aşağıdakilerden hangisidir?

- A) Cengiz Han
B) Mete Han
C) Bilge Kağan
D) Kutluk Kağan

10. Çin'den başlayıp Bizans'a kadar uzanan tarihî ticaret yolu aşağıdakilerden hangisidir?

- A) Tütsü B) Kürk
C) İpek D) Trans Sahra

11. Aşağıdakilerden hangisi yolcu ve ticaret kabilelerinin seyahat sırasında konaklaması için inşa edilmiş tesislerden değildir?

- A) Bedesten
B) Ribat
C) Han
D) Kervansaray

(135) SEÇMELİ TARİH – 1

1. Aşağıdakilerden hangisi Osmanlı Devleti ile Avusturya arasında yapılan savaşlardandır?

- A) Prut B) Ridaniye
C) Haçova D) Çaldıran

2. • Osmanlı ordusunun başında, Safeviler üzerine sefere çıkarak 1638'de Bağdat'ı fethetmiştir.
• Osmanlı Devleti ile Safeviler arasındaki Kasr-ı Şirin Antlaşması onun döneminde imzalanmıştır.

Hakkında bilgi verilen Osmanlı padişahı aşağıdakilerden hangisidir?

- A) I. Ahmet B) II. Osman
C) III. Mehmet D) IV. Murat

3. Avrupalı güçler, Coğrafi Keşifler ile hâkim oldukları Amerika Kitası'nda sanayide kullanılan bitkileri yetiştirdikleri tarımsal işletmeler kurdular. Bu işletmelerde çalıştırılmak için Afrika'da köle yapılan insanlar, gemilerle Amerika'ya getirildi, buradan gemilere doldurulan ürünler de Avrupa'ya taşındı. Bu durum, Avrupalıların kısa sürede zenginleşmesini sağladı.

Avrupalıların bu faaliyetleri aşağıdaki kavramlardan hangisi ile açıklanabilir?

- A) Liberalizm
B) Diplomasi
C) Mütakabiliyet
D) Sömürgecilik

4. İstanbul Anlaşması'yla (1700) - - - Kalesi'ni ele geçirerek ilk defa Karadeniz'e çıkma fırsatı bulan Rusya, Osmanlıların Karadeniz'deki varlığı için tehdit oluşturmuştur.

Bu cümlede boş bırakılan yere aşağıdakilerden hangisi getirilmelidir?

- A) Eğri B) Azak
C) Uyvar D) Estergon

5. Avrupa'da 1347'de başlayan veba salgını, kilisenin otoritesinin sarsılmasında önemli bir etken olmuştur. Çünkü salgın sona erdiğinde sıradan halk kadar rahipler de ölmüş ve bazı rahipler görevlerinden ayrılmıştır. Salgın, Orta Çağ toplumunu bir arada tutan manevi bağları da zayıflatmıştır.

Bu bilgide, veba salgınının Avrupa'ya hangi alandaki etkisi vurgulanmıştır?

- A) Dinî B) Eğitim
C) Ekonomik D) Askerî

6. Protestan mezhebinin ve kilisesinin 1555 yılında Almanya'da resmen tanınmasını sağlayan gelişme aşağıdakilerden hangisidir?

- A) Katolik Kilisesinin kendini feshetmesi
B) Augsburg Antlaşması'nın imzalanması
C) Avrupa'da Otuz Yıl Savaşları'nın sona ermesi
D) İnsan ve Yurttaş Hakları Bildirisi'nin kabul edilmesi

7. Kapitülasyonlar, Osmanlı topraklarında suç işleyen Avrupalıların, Osmanlı mahkemelerinde yargılanmasını engelliyordu. Yabancılar, iş yerlerinde kanunsuz faaliyetlerde bulunsada Osmanlı güvenlik güçleri, kapitülasyonlar yüzünden buralara müdahale edemiyordu.

Buna göre, kapitülasyonların Osmanlı Devleti'ne etkisi ile ilgili aşağıdakilerden hangisine ulaşılabılır?

- A) Siyasi alanda yalnız kalmasına neden olduğuna
B) Batı tarzı islahat hareketlerini engellediğine
C) Hukuk sisteminin işleyişine zarar verdiğine
D) Ekonomik bağımlılığını artırdığına

2. OTURUM

8. Aşağıdakilerden hangisi Lale Devri'nde İstanbul'da toplumsal yaşam tarzında değişiklik yaşandığına örnek oluşturur?

- A) Çiçek hastalığına karşı aşı yapılması
- B) Çini, kumaş ve çuha atölyesinin kurulması
- C) Edebî eserlerin Türkçeye çevrilmesi için bir heyet oluşturulması
- D) Batı tarzında ev eşyalarının kullanılmaya başlanması

9. Fransa'daki genel seferberlik uygulamasını yürürlüğe sokan 1793 tarihli kararnamenin birinci maddesi şöyle başlamaktadır: "Şu andan itibaren, düşmanlarımızın tümü cumhuriyet topraklarından çıkartılana kadar Fransızların hepsi orduda hizmet etmek üzere sürekli göreve alınmıştır."

Bu durum, Fransa'da aşağıdakilerden hangisinin uygulanmaya başlandığının göstergesidir?

- A) Denge politikasının
- B) Oligarşiye dayalı yönetimin
- C) Zorunlu askerlik sisteminin
- D) Sosyal devlet anlayışının

10. Panslavizm politikası doğrultusunda Osmanlı Devleti'ne karşı Sırp İsyanı'nı destekleyen devlet aşağıdakilerden hangisidir?

- A) Rusya
- B) İspanya
- C) İngiltere
- D) Avusturya

11. Aşağıdakilerden hangisi II. Mahmut Dönemi'nde kurulmuştur?

- A) İrad-ı Cedit
- B) Dârülhayr-ı Ali
- C) Mühendishane-i Bahr-i Hümayun
- D) Asâkir-i Mansûre-i Muhammediye

(137) TARİH – 5

1. Aşağıdakilerden hangisi Osmanlı Devleti ile Rusya arasında imzalanan antlaşmalardandır?

- A) Bucaş
- B) Prut
- C) Serav
- D) Pasarofça

2. İkinci Osman, Hotin Savaşı'ndaki disiplinsizlikleri nedeniyle Kapıkulu Ocaklarını kaldırmak istedi. Ancak padişahın yapmak istediği ıslahatlardan rahatsız olan kapıkullarının isyanıyla padişah tahttan indirildi ve Yedikule Zindanları'nda öldürüldü.

Buna göre, Osmanlı Devleti ile ilgili aşağıdakilerden hangisine ulaşılabılır?

- A) Yeni bir askerî sınıfın oluşturulduğuna
- B) Savaşlar sonucu ülke sınırlarının daraldığına
- C) Merkezî otoritenin zayıflamaya başladığına
- D) Osmanlı hanedanının sona erdiğine

3. Sadrazam Merzifonlu Kara Mustafa Paşa komutasındaki Osmanlı ordusunun ağır bir bozguna uğradığı kuşatma aşağıdakilerden hangisidir?

- A) Viyana
- B) Belgrad
- C) Üsküp
- D) Budin

4. Osmanlı Devleti'nde Lale Devri'nin sona ermesine neden olan gelişme aşağıdakilerden hangisidir?

- A) Çınar Vakası
- B) Şehzade Mustafa Vakası
- C) Patrona Halil İsyanı
- D) Bozoklu Şeyh Celâl İsyanı

5. Avrupa'da skolastik düşüncenin yerini akli ön planda tutan düşünce sisteminin almasıyla Katolik Kilisesi sorgulanmaya başlanmıştır. Bunun sonucunda Katolik Kilisesi zayıflamış ve yeni mezhepler ortaya çıkmıştır.

Bu bilgide, Avrupa'da hangi alanda yaşanan değişimden söz edilmiştir?

- A) Teknik
- B) Sanat
- C) Siyasi
- D) Dinî

6. Aydınlanma düşüncesini felsefi temellere oturtmuştur. "Aklını kendin kullanma cesaretini göster." sözüyle insanın aklını başkasının kılavuzluğuna bırakmaması gerektiği üzerinde durmuştur. "Saf Aklın Eleştirisi" adlı eserin sahibidir.

Bu bilgiler, aşağıdakilerden hangisine aittir?

- A) John Locke
- B) Immanuel Kant
- C) Pieter Brueghel
- D) Marguis de Villeneuve

7. Coğrafi Keşifler ile yeni ticaret yollarının ve kıtaların keşfedilmesi sonucunda Osmanlı'nın kontrolündeki Akdeniz Ticaret Yolu önemini kaybetmiştir. Sanayi Devrimi'nin alt yapısını oluşturan ham madde ve insan gücü bu yeni kıtalardan sağlanmıştır. Böylece Avrupa, Sanayi Devrimi'ni sorunsuz gerçekleştirmiştir.

Bu durumun Osmanlı Devleti'ne etkisi aşağıdakilerden hangisidir?

- A) Gümrük gelirlerinin artırılmaya başlanması
- B) Yabancılar tarafından kapitülasyonların kaldırılması
- C) Batılı devletlerle sömürgecilik yarışına girilmesi
- D) Avrupa karşısındaki ekonomik üstünlüğün kaybedilmesi

8. Osmanlı Devleti'nde I. Ahmet Dönemi'nde veraset sisteminde yapılan değişiklikle padişah olma hakkı aşağıdakilerden hangisine verilmiştir?

- A) Hanedanın en büyük üyesine
- B) En iyi eğitim almış şehzadeye
- C) Divan üyelerinin en tecrübelisine
- D) Sancakta görev yapmış olan şehzadeye

2. OTURUM

9. İhtilal sonrası Fransa'da Kurucu Meclisin hazırladığı anayasa, 1791'de kral tarafından onaylanmıştır. Fransa'nın bu ilk anayasasıyla halk yönetime katılmış ve güçler ayrılığı prensibi kabul edilmiştir. Böylece Fransa'da mutlak monarşi sona eren meşrutî monarşi dönemi başlamıştır.

Buna göre, Fransa ile ilgili aşağıdakilerden hangisine ulaşılabilir?

- A) Halkın eşitliğine dayanan yeni bir toplum düzenine geçilmiştir.
B) Monarşi dönemine ait kanunlar mecliste aynen kabul edilmiştir.
C) Millî egemenliği sağlama yolunda önemli bir adım atılmıştır.
D) Tüm yetkileri elinden alınan kral yurt dışına çıkarılmıştır.

10. İngiliz, Fransız ve Rus donanmasının 1827 yılında "Navarin Baskını" ile Osmanlı-Mısır donanmasını imha etmesinin temel amacı aşağıdakilerden hangisidir?

- A) Kutsal yerler sorununu çözüme kavuşturmak
B) Osmanlı Devleti'ndeki ıslahatları engellemek
C) İstanbul'u ele geçirerek Osmanlı Devleti'ne son vermek
D) Bağımsız bir Yunan devletinin kurulmasına destek olmak

11. İkinci Abdülhamit Dönemi'nde yardıma muhtaç insanları korumak amacıyla İstanbul'da kurulmuştur. Bu kurum, din ve milliyet farkı gözetmeden yardıma muhtaç insanların ihtiyaçlarını karşılamıştır. Osmanlı Devleti'nde modern anlamda faaliyet gösteren ilk sosyal yardım kurumu olup günümüzde de varlığını sürdürmektedir.

Bu bilgiler, aşağıdakilerden hangisine aittir?

- A) Dârülaceze
B) Hendesehane
C) Encümen-i Dâniş
D) Hilal-i Ahmer

(141) T.C. İNK. TAR. ATA. – 1

1. Mustafa Kemal'in büyüdüğü Makedonya; Türk, Yunan, Sırp, Ulah, Bulgar, Arnavut gibi milletlerin Müslüman, Hristiyan, Musevi kimlikleriyle kendilerine özgü yaşayışlarını sürdürdükleri bir Osmanlı Devleti toprağıydı.

Bu bilgide, Makedonya ile ilgili aşağıdakilerden hangisi vurgulanmaktadır?

- A) Kültürel çeşitliliğe sahip olduğu
B) Azınlık isyanlarının yaşandığı
C) Stratejik olarak önemli bir konumda bulunduğu
D) Asırlar boyunca Osmanlı egemenliğinde kaldığı

2. Tarih dersinde öğretmenin; "İçinde yer aldığı toplumun geleneksel inanç, düşünce ve kurumlarından vazgeçilerek, egemen uygarlık olan Avrupa uygarlığının öne çıkardığı düşünce ve kurumları benimseyip yerleştirme taraftarlığı" olarak tanımladığı fikir akımı aşağıdakilerden hangisidir?

- A) İslamcılık B) Osmanlıcılık
C) Türkçülük D) Batıcılık

3. Osmanlı Devleti'nin imzaladığı Uşi Antlaşması'nın sonucunda; Rodos ve On İki Ada geçici olarak - - - bırakıldı.

Bu cümlede boş bırakılan yere aşağıdakilerden hangisi getirilmelidir?

- A) Yunanistan'a
B) Arnavutluk'a
C) İtalya'ya
D) Fransa'ya

4. Avrupa ile etkileşim sonucunda başkent İstanbul başta olmak üzere büyük şehirlerde otomobil, tramvay, telefon ve telgraf kullanımı yaygınlaştı. Basın yayın organlarının sayısı çoğaldı. Avrupa'daki örneklerden yararlanarak kız öğrencilerin de eğitim alabileceği modern okullar açıldı. Güzel sanatlar alanında gelişme kaydedildi ve Osmanlı toplumu bale, opera gibi sanatlarla tanışmaya başladı.

Bu bilgide, aşağıdaki alanlardan hangisine yönelik gelişmelerden bahsedilmemiştir?

- A) Ulaşım B) Askerî
C) Eğitim D) Kültürel

5. Aşağıdakilerden hangisi Erzurum Kongresi'nin düzenlenmesine öncülük eden cemiyetlerdendir?

- A) Millî Kongre
B) Kilikyalılar
C) Vilâyet-i Şarkıyye Müdâfaa-i Hukuk-ı Millîye
D) Trakya-Paşaeli Müdâfaa-i Heyet-i Osmaniye

6. "Tekalif-i Millîye Emirleri"nin yayımlanmasının amacı aşağıdakilerden hangisidir?

- A) Millî ekonomiyi kurmak
B) Türk vatanının sınırlarını belirlemek
C) Millî cemiyetleri tek çatı altında toplamak
D) Türk ordusunun ihtiyaçlarını karşılamak

7. Aşağıdakilerden hangisi 350 subayın şehit olması sebebiyle "Subaylar Savaşı" olarak adlandırılmaktadır?

- A) İnönü Muharebesi
B) Kütahya-Eskişehir Muharebesi
C) Sakarya Meydan Muharebesi
D) Başkomutanlık Meydan Muharebesi

2. OTURUM

8. I. Saltanatın kaldırılması
II. Atatürk ilkelerinin anayasaya dâhil edilmesi
III. Halifeliğin kaldırılması
IV. Cumhuriyetin ilan edilmesi

Numaralanmış gelişmelerin kronolojik sıralaması aşağıdakilerden hangisinde verilmiştir?

- A) I – III – IV – II
B) I – IV – III – II
C) II – I – IV – III
D) II – IV – I – III

9. **Mustafa Kemal Atatürk'ün,** "Milletimizin, memleketimizin irfan yuvaları bir olmalıdır. Bütün memleket evladı, kadın ve erkek aynı surette oradan çıkmalıdır." sözü aşağıdaki inkılaplardan hangisiyle ilgilidir?

- A) Tevhid-i Tedrisat Kanunu'nun kabul edilmesi
B) Millet Mekteplerinin açılması
C) Yeni Türk alfabesinin kabul edilmesi
D) Türk Tarih Kurumunun açılması

10. Türkiye'nin ilk muhalefet partisi olan Terakkiperver Cumhuriyet Fırkasının kadroları Millî Mücadele'de etkin görevler üstlenmişlerdi. Parti başkanı Kazım (Karabekir), ikinci başkan Rauf (Orbay), genel sekreter Ali Fuat'tı (Cebesoy). Parti programında cumhuriyetin ve liberalizmin desteklendiği, farklı düşünce ve dinî inançlara saygılı olduğu ifade edilmişti.

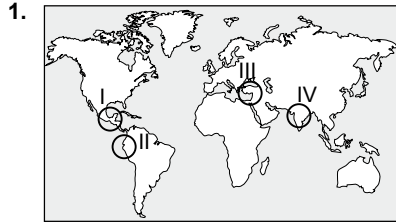
Buna göre, Terakkiperver Cumhuriyet Fırkası ile ilgili aşağıdaki yargılardan hangisine ulaşılamaz?

- A) Kuruluşunda Kurtuluş Savaşı'nın önemli isimleri rol almıştır.
B) Demokratik bir yönetim tarzını benimsemiştir.
C) İktidar partisine alternatif olmak için kurulmuştur.
D) Halkın büyük bir kesiminden destek görmüştür.

11. **Mustafa Kemal Atatürk** "Benim naziz vücudum elbet bir gün toprak olacaktır. Fakat Türkiye Cumhuriyeti ilelebet payidar kalacaktır." sözlerini aşağıdaki gelişmelerden hangisinin sonrasında söylemiştir?

- A) Hatay Sorunu'nun başlaması
B) İzmir suikast girişiminin yaşanması
C) II. Dünya Savaşı tehlikesinin ortaya çıkması
D) İtalya'nın Akdeniz'de yayılmacı bir siyaset izlemesi

(152) COĞRAFYA – 2



Hint uygarlığı haritada numaralanmış alanların hangisinde yer almaktadır?

- A) I B) II C) III D) IV

2. **Kırsal yerleşmeler kendi arasında sınıflandırılırken aşağıdakilerden hangisi dikkate alınmaz?**

- A) Nüfus yapıları
B) Mesken büyüklüğü
C) Kuruldukları yer
D) Ekonomik işlevi

3. **Aşağıdakilerden hangisi hat boyu yerleşme tipinin oluşmasına neden olan faktörlerdendir?**

- A) Fabrikalar
B) Su kıtlığı
C) Hayvancılık faaliyeti
D) Demir yolları

4. **Antalya, Bodrum, Marmaris ve Alanya gibi yaz turizminin geliştiği şehirler için aşağıdakilerden hangisi söylenemez?**

- A) Ülkeye döviz kazandırır.
B) Avrupalı turistlerin gözde şehirleridir.
C) Kış aylarında nüfusları daha da artar.
D) Hizmet sektörü gelişmiştir.

5. **Erzurum, Pasinler ve Muş ovaları düz alan olmasına rağmen buralarda nüfus yoğunluğunun düşük olmasında aşağıdakilerden hangisi daha fazla etkili olmuştur?**

- A) Kış mevsiminin uzun ve sert geçmesi
B) Ulaşım imkânlarının yetersiz olması
C) Büyük il merkezlerine uzak olmaları
D) Akarsu ağ sistemlerinin yoğun olması

6. **Bir bölge oluşturulurken öncelikle aşağıdakilerden hangisi dikkate alınır?**

- A) Bölgenin büyüklüğü
B) Bölgenin nüfus yoğunluğu
C) Bölge sınırlarının hangi hedeflere göre oluşturulacağı
D) Bölgenin komşu alanlarla olan beşeri bağlantıları

7. **Aşağıdakilerden hangisi sanayi bölgesini oluşturan unsurlardandır?**

- A) Ayçiçeği tarlası
B) Tekstil fabrikası
C) Alışveriş merkezi
D) Ladin ormanı

8. **Taştan yapılan meskenler volkanik alanlarda ve taşın bol olduğu yerlerde yaygındır. Taş, Akdeniz bölgesi, Kapadokya ve Doğu Anadolu'da sıklıkla kullanılan yapı malzemesidir. Kerpiç ve ahşap konutlara göre daha uzun süre ayakta kalırlar.**

Bu parçaya göre, aşağıdaki yargılardan hangisine ulaşılabılır?

- A) Yapı malzemesi ile çevre arasında bağlantı vardır.
B) Taş, dayanıksız bir yapı malzemesidir.
C) Taş meskenler birbirlerine benzer.
D) Kerpiç evler en yaygın mesken tipidir.

2. OTURUM



Verilen haritada koyu renkle aşağıdaki uluslararası teşkilatlardan hangisinin üyeleri ve sınırları gösterilmektedir?

- A) G-20
B) NATO
C) Avrupa Birliği
D) İslam İşbirliği Teşkilatı

10. Son yüzyıl içinde sanayileşmenin, nüfusun ve tüketimin artması gibi faktörler bir araya geldiğinde aşağıdakilerden hangisine sebep olmuştur?

- A) Coğrafi keşiflere
B) Çevre sorunlarına
C) Refah seviyesinin düşmesine
D) İnsan hakları ihlallerine

11. Aşağıdakilerden hangisinde madencilik faaliyetinden elde edilen ürün yoktur?

- A) Ulaşım araçlarında
B) Betonarme evlerde
C) Araç yakıtlarında
D) Süt ürünlerinde

(156) SEÇMELİ COĞRAFYA – 2

1. I. Sanayi
II. Turizm
III. Su kaynakları
IV. İklim

Numaralanmış etkenlerden hangileri, İlk Çağ medeniyetlerinde yerleşim yeri seçiminde etkili olmuştur?

- A) I ve II
B) I ve IV
C) II ve III
D) III ve IV

2. Aşağıdakilerden hangisi Hindistan sınırları içinde yer alan önemli bir mimari eserdir?

- A) Çin Seddi
B) Ayasofya
C) Mostar Köprüsü
D) Tac Mahal

3. Dünya ekonomi tarihine baktığımızda sanayileşme sürecini ilk yaşayan ülke aşağıdakilerden hangisidir?

- A) Hindistan
B) İngiltere
C) Çin
D) Rusya

4. Aşağıdakilerden hangisi dünyanın yedi harikasından biridir?

- A) Keops Piramidi
B) Eyfel Kulesi
C) Pisa Kulesi
D) Özgürlük Anıtı

5. Hollanda ile ilgili aşağıdaki bilgilerden hangisi yanlıştır?

- A) Avrupa kıtasında yer alır.
B) Tarımda modern yöntemler kullanılır.
C) Ortalama yükseltisi fazla ve dağlıktır.
D) Kişi başına düşen millî gelir fazladır.

6. • II. Dünya Savaşı'ndan sonra ülkeler arasında çıkan anlaşmazlıkları çözmek için kurulmuştur.

- ABD, Çin, Fransa, Rusya ve İngiltere alınan kararları veto etme hakkına sahiptir.
• Türkiye 1945'te üye olmuştur.

Verilen özellikler aşağıdaki örgütlerden hangisine aittir?

- A) Birleşmiş Milletler
B) Avrupa Birliği
C) Karadeniz Ekonomik İşbirliği
D) Bağımsız Devletler Topluluğu

7. Aşağıdakilerden hangisi küresel çevre sorunlarından biri değildir?

- A) Ozon tabakasının seyrelmesi
B) Yenilenebilir enerji tüketimi
C) Çarpık kentleşme
D) Asit yağmurları

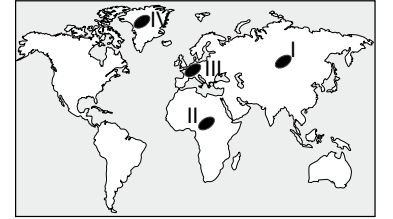
8. Bazı ülkelerin kaynak bazında elektrik üretim oranları yüzde (%) olarak tabloda verilmiştir.

Ülke	Kömür	Petrol	Doğal Gaz	Nükleer	Yenilenebilir Enerji	Diğer
Fransa	2,1	0,3	2,3	77,6	17,5	0,2
Almanya	45,4	0,9	9,9	15,5	28,0	0,3
Kanada	9,9	1,2	9,3	16,4	62,8	0,4
Dünya	40,6	4,3	21,6	10,6	22,8	0,1

Tablo incelendiğinde aşağıdaki bilgilerden hangisine ulaşılamaz?

- A) Almanya'nın elektrik üretiminde kömürün payı doğal gazdan daha fazladır.
B) Fransa, elektriğinin büyük bir kısmını nükleer enerjiden karşılamaktadır.
C) Kanada'da elektrik üretiminde yenilenebilir kaynakların oranı yarıdan fazladır.
D) Dünya'da, elektrik üretiminde en büyük pay petrole aittir.

9. Los Angeles tipi hava kirliliği daha çok egzoz gazlarından kaynaklanmakta ve yaz aylarında daha etkili olmaktadır.



Buna göre, haritada işaretli noktaların hangisinde bu tip hava kirliliğinin fazla olması beklenir?

- A) I
B) II
C) III
D) IV

10. Aşağıdakilerden hangisi atıkların çevreye verdiği zararları azaltmak için yapılan uygulamalardan biri değildir?

- A) Petrol ve türevi plastiklerden oluşan atıkları yakmak
B) Atıkları türlerine göre ayırarak farklı çöp alanlarına atmak
C) Alışverişlerde naylon poşet yerine bez torba kullanmak
D) Atıkların bertaraf edilebileceği geri dönüşüm tesisleri kurmak

2. OTURUM

11. Geri kalmış ülkelerde kömür ve demir madenlerinin dış ticareti ham madde olarak yapılırken bu madenler gelişmiş ülkelerde doğrudan demir-çelik sanayisinde mâmül maddeye dönüştürülerek değerli bir ihracat kaynağı hâline getirilmektedir.

Bu metne göre, aşağıdakilerden hangisi söylenebilir?

- A) Demir ve kömür dünya ticaretinin en değerli kaynaklarıdır.
 B) Doğal kaynakların ekonomik değerlendirme şekli ülkeden ülkeye değişebilir.
 C) Maden zenginliğine sahip ülkelerin ekonomisi gelişmiştir.
 D) Madenlerin kullanım şekli değişmez.

(164) MATEMATİK – 4

1. İkinci dereceden $5x^2 + ax - 12 = 0$ denkleminin bir kökü -3 olduğuna göre, a kaçtır?

- A) -11 B) -6
 C) 6 D) 11

2. $\sqrt[3]{-27} - \sqrt{-4}$ sayısının karmaşık sayı biçiminde gösterimi aşağıdakilerden hangisidir?

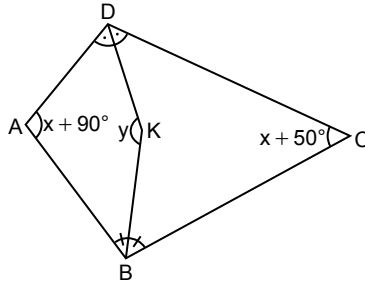
- A) $-3 - 2i$ B) $-3 + 2i$
 C) $3 - 2i$ D) $3 + 2i$

3. $3x^2 + ax - 7 = 0$ denkleminin kökleri x_1 ve x_2 dir.

$x_1 + x_2 = x_1 \cdot x_2 + 1$ olduğuna göre, a kaçtır?

- A) -10 B) -4 C) 4 D) 10

4.

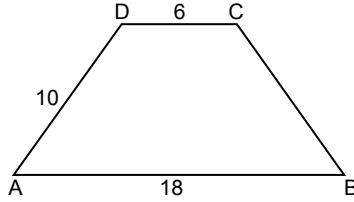


Şekildeki ABCD dörtgeninde $[DK]$, ADC açısının; $[BK]$, ABC açısının açıortayı ve $m(\widehat{BKD}) = y$,
 $m(\widehat{DAB}) = x + 90^\circ$,
 $m(\widehat{BCD}) = x + 50^\circ$ dir.

Buna göre, y kaç derecedir?

- A) 160 B) 150 C) 140 D) 130

5.

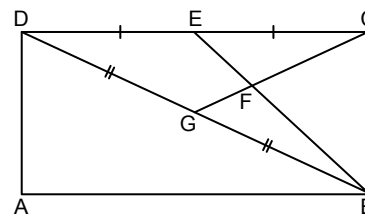


Şekilde ABCD ikizkenar yamuk, $|AB| = 18$ cm, $|DC| = 6$ cm ve $|AD| = 10$ cm'dir.

Buna göre, $A(ABCD)$ kaç santimetrekaredir?

- A) 72 B) 96 C) 108 D) 120

6.

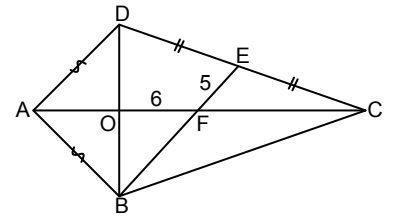


Şekilde ABCD dikdörtgen, $[CG] \cap [BE] = \{F\}$ ve $|DE| = |EC|$, $|DG| = |GB|$,
 $A(DGFE) = 12$ cm² dir.

Buna göre, $A(ABCD)$ kaç santimetrekaredir?

- A) 72 B) 54 C) 48 D) 36

7.

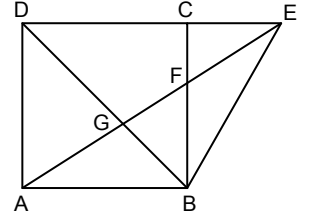


Şekildeki ABCD deltoidinde $[AC]$ ve $[BD]$ köşegen, $[AC] \cap [BD] = \{O\}$,
 $[AC] \cap [BE] = \{F\}$, $E \in [DC]$,
 $|DE| = |EC|$, $|AB| = |AD|$,
 $|AC| = 4|AO|$ ve $|FE| = 5$ cm,
 $|OF| = 6$ cm'dir.

Buna göre, $A(ABCD)$ kaç santimetrekaredir?

- A) 96 B) 144 C) 168 D) 192

8.



Şekilde ABCD kare, ABE üçgen, D, C ve E noktaları doğrusal,
 $[AE] \cap [BD] = \{G\}$, $[BC] \cap [AE] = \{F\}$
 ve $A(\widehat{ABE}) = 36$ cm² dir.

Buna göre, $|DB|$ kaç santimetredir?

- A) 6 B) $6\sqrt{2}$
 C) 12 D) $12\sqrt{2}$

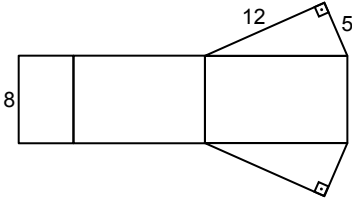
2. OTURUM

9. Bir dikdörtgenler prizmasının üç farklı yüzey alanı 20 cm^2 , 36 cm^2 ve 45 cm^2 dir.

Buna göre, bu dikdörtgenler prizmasının hacmi kaç santimetreküp-tür?

- A) 144 B) 160 C) 180 D) 225

10.



Şekilde açılımı verilen dik üçgen dik prizmanın tabanının dik kenar uzunlukları 5 cm ve 12 cm'dir.

Bu prizmanın yüksekliği 8 cm olduğuna göre, yüzey alanı kaç santimetrekaredir?

- A) 240 B) 300 C) 360 D) 480

11. Bir ayrıntının uzunluğu 12 cm olan düzgün dört yüzünün yan yüz yüksekliği kaç santimetredir?

- A) $6\sqrt{6}$ B) $6\sqrt{3}$
C) $4\sqrt{6}$ D) $4\sqrt{3}$

(182) İNGİLİZCE – 2

1-9. sorularda boş bırakılan yere/yerlere uygun gelen kelime ya da ifadeyi işaretleyiniz.

1. Brad : Would you like to go to the restaurant?

Charles : Of course, I'm starving. ----.

- A) I want to eat a delicious meal
B) It is served with vegetables
C) It is a traditional Turkish food
D) I will have just some coffee

2. Heidi : Can I have the bill, please?

Waitress : Of course madam. How will you pay?

Heidi : ----?

Waitress : Sure, you can also pay in cash.

- A) Are you ready to order
B) Do you take credit cards
C) Do you have any specials
D) Would you like anything else

3. Anthony passed all his exams and he ---- his achievement with his friends.

- A) celebrated B) arrived
C) responded D) prepared

4. London is famous ---- Big Ben, Buckingham Palace and Victoria Museum.

- A) in B) at
C) for D) of

5. In case of a fire, you should ---- the building as quickly as possible.

- A) rely on
B) get out of
C) stay in
D) break down

6. Janice : I have a/an ----.

Candy : I think, you must go to a dermatologist.

- A) ear infection
B) sore throat
C) bleeding wound
D) rash on my hand

7. James : I am very interested in the history of ancient civilizations.

Adam : ----.

James : Why don't we visit the famous museum in the city then?

Adam : Let's do that.

- A) It is not very me
B) That is a waste of time
C) It also attracts my attention
D) I get bored with cultural activities

8. I am very tired, I don't want to do anything at the weekend. I am going to ---- at home.

- A) have a rest
B) play beach volley
C) throw a party
D) go to a camp

9. Sometimes Internet can be a threat, especially for teens because ----.

- A) they can get the benefits of Internet
B) they can face cyberbullying and stalking
C) it improves the quality of communication
D) it helps them to contact with their friends online

10. Interviewer : I want to ask some questions about your TV habits. OK?

Anna : OK. Let's start.

Interviewer : ----?

Bu diyalogda boş bırakılan yere aşağıdakilerden hangisi getirilemez?

- A) How many hours do you spend watching TV
B) Which TV programmes do you watch
C) How much does this TV cost
D) What is the role of watching TV in your life

2. OTURUM

11. Thomas and his father went to Lyon, France. They stayed in a hotel near the beach. They walked along the beach before they went to a famous restaurant.

Bu metinde aşağıdaki sorulardan hangisinin cevabı vardır?

- A) When did they go to Lyon?
- B) How was the weather in Lyon?
- C) What did they eat there?
- D) Who was Thomas with?

(182) ALMANCA – 2

1-6. sorularda boş bırakılan yere/yerlere uygun gelen kelime ya da ifadeyi işaretleyiniz.

1. **A:** Was möchtet ihr heute Mittag - - - - ?
B: Nur Salat.

- A) gegessen B) essen
- C) esse D) isst

2. **Für drei Flaschen Milch habe ich 45 Lira - - - - .**

- A) trinkt B) gegessen
- C) bezahlt D) getrunken

3. **Der dritte Monat ist der - - - - .**

- A) Januar B) April
- C) August D) März

4. Meine Geschwister und ich wollen ein Geschenk für unseren Vater kaufen.

Wir wollen ihm eine - - - - machen.

- A) Feiertag B) Traum
- C) Fest D) Überraschung

5. **Markus geht gerne im Winter auf die Berge Snowboard - - - - .**

- A) klettern B) schwimmen
- C) fahren D) gehen

6. **A:** Wann hat Herr Demir Training?

B: Er hat - - - - Freitag - - - - 9:00 Uhr Training.

- A) am / im B) im / um
- C) an / in D) am / um

7. **Wo kann man keine Lebensmittel kaufen?**

- A) In der Apotheke.
- B) Im Supermarkt.
- C) In der Metzgerei.
- D) Im Gemüseladen.

8. **Wann hat dein Bruder Ferien?**

- A) Vom ersten bis zum achtundzwanzigsten Juli.
- B) Am Montag fliegt er nach Antalya.
- C) Im Frühling feiert er seinen 14. Geburtstag.
- D) Am Wochenende geht er tanzen.

9. **Aşağıdaki dükkân-ürün eşleştirmelerinden hangisi yanlıştır?**

- A) die Bäckerei: Brot
- B) die Metzgerei: Hefte
- C) die Buchhandlung: Stifte
- D) der Supermarkt: Gemüse

10. Wir feiern Geburtstag mit unseren Klassenkameraden. Die Party ist am 20. August in der Schule um 14 Uhr.

Bu parçada aşağıdaki sorulardan hangisinin cevabı yoktur?

- A) Wann endet die Party?
- B) Wo feiern sie?
- C) Wann ist die Party?
- D) Wer kommt zur Party?

11. **Welches ist keine Sportart?**

- A) Schwimmen
- B) Gymnastik machen
- C) Lesen
- D) Skifahren

(182) FRANSIZCA – 2

1-10. sorularda boş bırakılan yere/yerlere uygun gelen kelime ya da ifadeyi işaretleyiniz.



Dans la chambre, il y a - - - - .

- A) un ordinateur et un vase sur la table
- B) un sac entre le lit et l'armoire
- C) un fauteuil derrière le lit
- D) deux vases sur l'armoire

2. **En général, - - - - travaille - - - - .**

- A) un banquier / dans un garage
- B) un serveur / dans une poste
- C) un enseignant / dans une école
- D) un facteur / un hôpital

3. **Il ne sait pas - - - - chemise et - - - - couleur choisir.**

- A) quelle / quelle
- B) quel / quels
- C) quels / quelles
- D) quel / quel

2. OTURUM

4.



----- de la natation depuis quinze ans.

- A) Je joue
- B) Je frappe
- C) Je pratique
- D) Je fais

5. Les footballeurs ----- au football dans le -----.

- A) frappent / plage
- B) courent / salle de sport
- C) jouent / stade
- D) font / piscine

6. Demain vous allez à Paris. Parce que vous avez une réunion importante. Avant de prendre le train, vous ----- acheter votre billet. N'oubliez pas d'aller au guichet !

- A) devez
- B) pouvez
- C) voulez
- D) trouvez

7. Le médecin travaille -----.

- A) au restaurant
- B) à l'hôpital
- C) à la boulangerie
- D) à l'hôtel

8. Ma mère prend ----- train, elle voyage ----- première classe.

- A) le / au
- B) en / à
- C) le / en
- D) en / le

9. André : Bonjour madame, ----- ?

Béatrice: Oui, mais il n'y a pas de place pour train de 15 heures monsieur.

- A) est-ce qu'il y a un train à 15 heures
- B) combien coûte le billet aller-retour
- C) est-ce qu'il y a un vol à 15 heures
- D) avez-vous des places libres

10. Dans cet -----, il y a quatre -----.

- A) maisons / ascenseurs
- B) appartement / pièces
- C) chambre / escaliers
- D) immeuble / étage

11.

Marie a 16 ans. Elle aime faire du sport. Elle joue au handball. Marie s'entraîne sept jours par semaine. Parce qu'il y a un tournoi de handball cet été. Son équipe prépare ce tournoi.

Bu metne göre, aşağıdakilerden hangisi doğrudur?

- A) Cette semaine, il y a un tournoi de handball.
- B) L'équipe de Marie prépare le match sur le ring.
- C) Elle a 16 ans et déteste le sport.
- D) Marie s'entraîne chaque jour.

(196) SEÇMELİ ORTAK TÜRK TARİHİ – 2

1. Moğol İmparatorluğu, dünya tarihinde ----- adıyla ünlü Temuçin ve onun torunlarının kurduğu, 13 ve 14. yüzyıllar arasında hüküm süren bir imparatorluktur.

Bu cümlede boş bırakılan yere aşağıdakilerden hangisi getirilmiştir?

- A) Batu Han
- B) Çağatay Han
- C) Berke Han
- D) Cengiz Han

2. Codex Cumanicus, bilinen ilk Türkçe-Avrupa dilleri sözlüğü olmakla beraber eski Kıpçak Türkçesinin gelişmiş bir dil olduğunu kanıtlamaktadır. İki bölümden oluşan bu eserin birinci bölümü Latince-Farsça-Kıpçakça, ikinci bölümü ise Kıpçakça-Almanca ve Kıpçakça-Latince sözcüklerden oluşmaktadır. Bu sözlükte Kıpçakçaya çevrilmiş kırk yedi Kıpçak bilmececi ve Kıpçakça eklerle ilgili dil bilgisi kuralları da yer almıştır.

Buna göre, Codex Cumanicus ile ilgili aşağıdakilerden hangisine ulaşılabılır?

- A) Avrupalı dil bilimciler tarafından yazıldığına
- B) Farklı Türk toplulukları tarafından kullanıldığına
- C) Edebî açıdan önemli bir eser olduğuna
- D) Kıpçakların Hristiyanlığı seçmesini anlattığına

3. Aşağıdakilerden hangisi Moğollar'da "daimî hizmetteki asker" anlamına gelmektedir?

- A) Dadu
- B) Nöker
- C) Yalvaç
- D) Tegin

2. OTURUM

4. Altın Orda Devleti tarafından İdil Nehri'nin aşağı kısımlarında yirmiden fazla kent kurulmuştur. Bu kentlerin en büyüğü olan Saray Berke'nin nüfusunun yüz binden fazla olduğu tahmin edilmektedir. Altın Orda halkının bir kısmı İdil ve Ural Nehirleri havzalarında bulunan Saray, Kazan, Astrahan gibi büyük Altın Orda şehirlerinde ticaretle uğraşmıştır. Halkın önemli bir kısmı ise geçimini hayvancılıkla sağlamıştır.

Bu bilgide, Altın Orda ile ilgili olarak aşağıdakilerin hangisinden söz edilmemiştir?

- A) Yönetim şekli
B) Önemli şehirlerinden
C) Hâkimiyet alanından
D) Gelir kaynaklarından

5. Hekim, yazar, tarihçi ve İlhanlıların veziridir. "Camiü't-Tevârih" adlı eserin sahibidir.

Bu bilgiler aşağıdakilerden hangisine aittir?

- A) Hoca Ahmet Yesevî
B) Hacı Bektaş Veli
C) Mevlana Celaleddin-i Rumî
D) Reşideddin Fazlullah Hemedanî

6. Türkiye Selçuklularının Köseadağ Savaşı'nda Moğollara yenilmesi ve yıkılış sürecine girmesi ile Anadolu'da Karamanoğulları, Aydınoğulları, Eşrefoğulları, Karesioğulları, İsfendiyaroğulları, Menteşeoğulları gibi birçok beylik ortaya çıktı. Bunlardan biri de Osmanlı Beyliği idi.

Buna göre, Anadolu ile ilgili aşağıdakilerden hangisine ulaşılabılır?

- A) Türk siyasi birliğinin bozulduğuna
B) Taht kavgaları sonucu iç isyanların çıktığına
C) Moğollara bağlı yeni devletlerin kurulduğuna
D) Türk beylikleri arasında savaşların yaşandığına

7. Aşağıdakilerden hangisi Osmanlıların Haçlılara karşı yaptığı savaşlardandır?

- A) Talas
B) Niğbolu
C) Ankara
D) Katvan

8. Mısır'da hüküm süren Memluk Devleti'ne son veren Osmanlı padişahı aşağıdakilerden hangisidir?

- A) Yıldırım Bayezit
B) Fatih Sultan Mehmet
C) Yavuz Sultan Selim
D) Kanuni Sultan Süleyman

9. Emir Timur, kendi devletini Turan ve Türkistan adlarıyla ifade etmiştir. Ona sunulan "Timur Tüzükleri" adlı eserde Timur'a ait şöyle bir cümle geçmektedir: "Biz kim Melik-i Turan, Emir-i Türkistanız. Biz kim milletlerin en eskisi ve en büyüğü (olan) Türk'ün baş halkasıyız."

Bu durum, Timur Devleti'nde aşağıdakilerden hangisine önem verildiğini göstermektedir?

- A) Ordu teşkilatına
B) Millî kimliğe
C) Dinî inanışlara
D) Cihana hükmetme fikrine

10. Aşağıdakilerden hangisi Türk dünyasının ortak değerlerinden değildir?

- A) Köroğlu
B) Keloğlan
C) Alp Bamsı
D) İbni Battuta

11. Türk hakanlarından biri, birkaç yıl önce geçen bir savaşı öğrenmek ister. Savaşın geçtiği yılı şaşırırlar. O, halkına danışır ve şöyle der: "Biz bu tarihte nasıl yanıldık bizden sonra gelecek olanlar da yanılacaklardır. Biz şimdi on iki ay ve on iki burcu dikkate alarak on iki yılı adlandıralım ki onların dönmesiyle tarih hesaplasın ve ebedî bir hatıra olsun." Halk, hakanın bu önerisini kabul eder. Böylece her yılın farklı bir hayvan adıyla adlandırıldığı On İki Hayvanlı Türk Takvimi oluşturulur.

Buna göre, On İki Hayvanlı Türk Takvimi'nin oluşturulmasında aşağıdakilerden hangisi etkili olmuştur?

- A) Sosyal devlet anlayışı
B) Savaşlarda başarılı olma isteği
C) Zamanın ölçülmesine ihtiyaç duyulması
D) Komşu ülkelerin örnek alınması

(207) SEÇMELİ PSİKOLOJİ – 2

1. Öğrenmenin gerçekleşebilmesi için;
- davranışta bir değişiklik olması,
 - davranış değişikliğinin gözlenebilir olması,
 - değişikliğin olabildiğince devamlı ve kalıcı olması,
 - davranış değişikliğinin eğitim-öğretim, tekrar ve yaşantılar (deneyimler) sonucu meydana gelmesi gerekmektedir.

Buna göre, öğrenme ile ilgili aşağıdakilerden hangisi söylenemez?

- A) Refleksif olduğu
B) Devamlı ve kalıcı olduğu
C) Tekrar sonucu meydana geldiği
D) Davranışta değişiklik oluşturduğu

2. Sadece büyüme ve olgunlaşmaya bağlı olarak ortaya çıkan değişimler, içgüdü davranışları ve refleksler öğrenme olarak kabul edilemez.

Buna göre, aşağıdakilerden hangisi öğrenmedir?

- A) Leyleklerin belli mevsimlerde göç etmesi
B) Limon görüntüsünün ağzı sulandırması
C) Karanlık ortamda göz bebeğinin büyümesi
D) Ergenlikle birlikte erkeklerde sesin kalınlaşması

3. Organizmanın doğal uyarıcıya gösterdiği tepkiyi yapay uyarıcıya da göstermesine klasik koşullanma denir.

Buna göre, aşağıdakilerden hangisi klasik koşullanma örneği değildir?

- A) Zil sesini duyan öğrencilerin teneffüse çıkması
B) Çatal, bıçak sesleri duyan kişide açlık hissinin uyanması
C) Ambulans sirenini duyan şoförlerin ambulansa yol vermesi
D) Kumandanın tuşlarına rastgele basan çocuğun televizyonu açması

2. OTURUM

4. Sıcak bir havada araba ile seyahat ederken sıcak havanın verdiği rahatsızlıktan kurtulmak için klimayı açarak rahatsızlık veren durumdan kurtulmak olumsuz pekiştirme durumuna örnektir.

Aşağıdakilerin hangisinde bu örneğe benzer bir durum vardır?

- A) Dışardan gelen gürültüden rahatsız olan Ömer'in pencereleri kapatması
B) Derslerini ihmal eden Derya'nın bilgisayar şifresini, babasının geçici olarak değiştirmesi
C) Futbol müsabakasında üst üste hata yapan Caner'in teknik direktör tarafından uyarılması
D) Dondurma yemeyi çok seven Zehra'nın havalar ısınır ısınmaz dondurma yemeye başlaması
5. Sakalı olan her kişiye dede dediği için etrafındaki herkes tarafından gülme tepkisi ile pekiştirilen bir çocuk, bir süre sonra pekiştirecin etkisini yitirmesiyle dede kelimesini kullanmamaya başlamıştır. Aradan birkaç hafta geçtikten sonra kimse gülme tepkisinde bulunmamasına rağmen yeniden dede kelimesini sakalı olan tüm kişiler için geçici bir süre kullanmıştır.

Bu parçada, koşullanmayla ilgili aşağıdaki kavramların hangisine ait örnek yoktur?

- A) Sönme
B) Ayırt etme
C) Genelleme
D) Kendiliğinden geri gelme
6. Evde kitap okuyan anne baba olduğunda çocuğun kitap okuma alışkanlığı konusunda olumlu bir tutuma sahip olduğu görülmektedir.
- Bu durum aşağıdakilerden hangisine örnektir?**
- A) Bilişsel öğrenmeye
B) Psiko-motor öğrenmeye
C) Model alarak öğrenmeye
D) Koşullanma yoluyla öğrenmeye

7. Öğrenmeyi etkileyen faktörler "öğrenenle, öğrenme yöntemiyle ve öğrenme malzemesiyle" ilgili olmak üzere farklı gruplarda ele alınmaktadır.

Buna göre, aşağıdakilerden hangisi diğerlerinden farklı bir gruba aittir?

- A) Güdülenme
B) Olgunlaşma
C) Anlamsal çağrışım
D) Genel uyarılmışlık hâli

8. "Matematik dersinin yazılı sınavına çok çalışan öğrencinin, özel bir çaba göstermediği hâlde fizik dersinin sınavından da yüksek puan alması" aşağıdakilerden hangisine örnektir?

- A) Olgunlaşma
B) Olumlu aktarım
C) Geriye ket vurma
D) Genel uyarılmışlık hâli

9. Hindistan'da filleri yetiştirmek için, onları küçükken kalın bir zincirle bir kazığa bağladılar. Yavru fil, zinciri koparıp özgürlüğüne kavuşmak için tüm gücüyle uğraşır ama sonucu değiştiremezmiş. Yıllar geçip fil kocaman olsa da zincirden ve tutsaklığından kurtulamayacağına inandığından özgürlüğüne kavuşmak için hiçbir çabada bulunmamış.

Bu durum, aşağıdakilerden hangisine örnektir?

- A) Olumsuz aktarım
B) Türe özgü hazır oluş
C) Öğrenilmiş çaresizlik
D) Taklit yoluyla öğrenme

10. Bireyin aynı anda hem istediği hem de istemediği durumla karşı karşıya kaldığı için tercih yaparken zorlanmasına yaklaşma-kaçınma çatışması denir.

Buna göre, aşağıdakilerden hangisi bu duruma örnektir?

- A) Bir çocuğun, istediği iki oyuncaktan sadece birini alma hakkının olması
B) Bir çocuğun hem uyumaya hem de oyun oynamaya devam etmek istemesi
C) Bir öğrencinin istemediği hâlde piyano ile keman kursu arasında tercih yapması
D) Bir gencin, sivilcelerden kurtulmak isterken sivilce ilacı kullanmak istememesi

11. Aşağıdakilerin hangisinde savunma mekanizması ile örnek durum eşleştirmesi yanlıştır?

- A) Gerileme - Ergenlik dönemindeki bir gencin kendisini dünyaca ünlü bir futbolcu olarak hayal etmesi
B) Bastırma - İnsanın sevmediği ama görüşmek zorunda olduğu bir kişiyle olan randevu saatini unutması
C) Yansıtma - Dedikodu yapmayı seven birinin etrafındaki herkesin dedikodu yaptığını düşünmesi
D) Yadsıma - Evcil hayvanı ölen birinin, evcil hayvanının mamasını ve suyunu her gün tazelemesi

2. OTURUM

(208) SEÇMELİ SOSYOLOJİ – 1

1. Sosyolojinin temel amacı; toplumların değişimini, gelişimini, yapısını araştırmak ve elde edilen bilgilerle araştırma konusu olan topluma yönelik genellemeler yapmaya çalışmaktır. Sosyoloji hem toplumların kendi içindeki ve toplumların birbiri arasındaki farklılıkları hem de bu farklılıklardaki benzerliği göstererek bireylerin içinde yaşadıkları dünyayı ve kendilerini daha iyi anlamalarını sağlar.

Buna göre, sosyoloji ile ilgili aşağıdakilerden hangisine ulaşılabılır?

- A) Toplumların ve bireylerin anlaşılmasında etkili olduğuna
- B) Genellemeler yapmadan sonuca ulaşmaya çalıştığına
- C) Yalnızca toplumsal değişimleri konu edindiğine
- D) Temel amacının toplumları ahlaki yönden incelemek olduğuna

2. İzmir'in düşman işgalinden kurtuluşu, Pasinler Savaşı, Kavimler Göçü gibi toplumsal olaylar ile ilgili aşağıdakilerden hangisi doğrudur?

- A) Genel ve soyuttur.
- B) Yeri ve zamanı belirsizdir.
- C) Ne zaman son buldukları belli değildir.
- D) Bir defaya mahsus gerçekleşen olaylardır.

3. İnsanın zaman içinde geçirdiği biyolojik değişimleri, eski ve yeni insan topluluklarını karşılaştırarak inceleyen ve bu nedenle sosyoloji ile kaçınılmaz bir ilişki hâlinde olan disiplin aşağıdakilerden hangisidir?

- A) Psikoloji
- B) Siyaset bilimi
- C) Fiziksel antropoloji
- D) Kültürel antropoloji

4. Aşağıdakilerden hangisi kuruluş örneğidir?

- A) Aile
- B) Şirket
- C) Eğitim
- D) Siyaset

5. Ahmet, gecekondularda yaşayan ailelerle ilgili bir araştırma yapmak istemektedir. Bu araştırma, gecekonduların tarihsel gelişimi; gecekondularda yaşayan ailelerin kültürel, ekonomik, düşünsel durumları, dinlenme ve eğlenme alışkanlıkları hakkında derinlemesine bilgilere ulaşmayı amaçlamaktadır.

Buna göre, Ahmet'in amacına ulaşmak için kullanması gereken yöntem aşağıdakilerden hangisidir?

- A) Test
- B) Anket
- C) Monografi
- D) Sosyometri

6. Resmî olmayan normlar; toplum içinde zamanla oluşan, insanların birbirlerini rahatsız etmemelerini, birbirlerine saygılı davranmalarını sağlayan toplumsal kurallardır. Resmî normlar ise gücünü devletten alan; uyulması zorunlu, yaptırım gücü yüksek yazılı kurallardır.

Buna göre, aşağıdaki normlardan hangisi diğerlerinden farklıdır?

- A) Yasa
- B) Âdet
- C) Gelenek
- D) Görenek

7. Uyuşturucu madde kullanımı, çete kurma, şiddete başvurma ve yasadışı bahis oynama gibi davranışlar aşağıdakilerden hangisine örnektir?

- A) Rol çatışması
- B) Olumsuz sapma
- C) Toplumsal norm
- D) Toplumsal kontrol

8. Sanayileşmenin artmasıyla birlikte kentler tek merkezli olmaktan çıkıp çok merkezli büyük kentler hâlini almıştır. Metropol olarak adlandırılan bu ana kentler sanayi, ticaret, finans, ulaşım, eğitim, alışveriş başta olmak üzere birden fazla merkezin birleşmesi sonucu ortaya çıkmıştır.

Buna göre, aşağıdaki illerden hangisi metropoldür?

- A) İstanbul
- B) Tokat
- C) Muş
- D) Ardahan

9. Sosyo-kültürel değerleri birbirinden farklı birey ya da grupların çatışmasını engellemek, azaltmak ve uyumunu sağlamak için karşılıklı ödümler vererek uzlaşmalarını sağlayan etkileşim türü aşağıdakilerden hangisidir?

- A) Çatışma
- B) Rekabet
- C) Mübadele
- D) Uyarılama

10. Toplumsal değişimle ilgili aşağıdakilerden hangisi doğrudur?

- A) Toplumsal değişim her zaman planlı şekilde gerçekleşir.
- B) Bir alandaki toplumsal değişim diğer alanlardan bağımsız değildir.
- C) Her toplum değişim hâlinde olduğu için değişim hızları da aynıdır.
- D) Toplumsal yapının manevi unsurları maddi unsurlarına göre daha hızlı değişir.

11. Deniz kıyısında ya da ovada yer alan dışa dönük toplumlarda değişim hızlıyken, kara içinde ya da dağlık bir bölgede yer alan kapalı toplumlarda ise değişimin daha yavaş olması toplumsal değişmeyi etkileyen aşağıdaki faktörlerden hangisiyle ilgilidir?

- A) Kültür
- B) Demografi
- C) Fiziki çevre
- D) Demokratikleşme

2. OTURUM

(221) SAĞLIK BİLGİSİ VE TRAFİK KÜLTÜRÜ – 1

1. Bakteri, virüs ve mantar gibi mikroorganizmaları bir omurgalı canlıdan başka bir omurgalı canlıya taşıyarak hastalıklara neden olan organizmalardır. Bunların sebep olduğu hastalıklara sıtma, tifo ve kolera örnek verilebilir.

Bu açıklama, insan sağlığı üzerinde etkili olan çevresel etmenlerden hangisiyle ilgilidir?

- A) Vektörlerle
- B) Kanserojenlerle
- C) Radyoaktif maddelerle
- D) Genetiği değiştirilmiş organizmalarla

2. Sağlık durumunu, hastalığının seyirini, hastalığı sebebiyle uygulanacak tıbbi işlemleri, bu işlemlerin yararlarını veya risklerini öğrenmek isteyen bir kişi, aşağıdaki temel hasta haklarından hangisini kullanmalıdır?

- A) Bilgilerin gizli tutulması
- B) Mahremiyet
- C) Bilgi isteme
- D) Güvenlik

3. Diş fırçalamayla ilgili olarak aşağıdaki önerilerden hangisi doğrudur?

- A) Fırçalama, sert darbeler hâlinde arka dişlerden ön dişlere doğru yapılmalıdır.
- B) Arka dişlere rahat ulaşabilmek için büyük başlı diş fırçası tercih edilmelidir.
- C) Fırçalama işleminden önce, diş fırçası ve fırçaya konulan macun mutlaka ıslatılmalıdır.
- D) Fırçanın üzerine konulan macun miktarının nohut tanesi büyüklüğünde olması yeterlidir.

4. Çocuklarının sağlıklı bir ergenlik dönemi geçirmesini isteyen ailelerin, aşağıdakilerden hangisini yapması yanlıştır?

- A) Olumlu ve etkili iletişim kurmada çocuklarına model olmaları
- B) Çocuklarını arkadaşlarıyla veya kardeşleriyle kıyaslamaları
- C) Aile içinde alınan kararlara çocuklarını da dâhil etmeleri
- D) Çocuklarını sosyal aktivitelere yönlendirmeleri

5. Yaş dönemlerine göre beslenmede dikkat edilmesi gereken hususlarla ilgili aşağıdakilerden hangisi doğrudur?

- A) Yaşlılık döneminde karbonhidrat ağırlıklı beslenilmesi
- B) Yetişkinlerin, günlük beslenmede tuz miktarını artırması
- C) Bebeklerin, mümkünse ilk altı ay anne sütü ile beslenmesi
- D) Okul çağındaki çocukların; besin değeri düşük, şekeri ve yağı fazla gıdaları tüketmesi

6. • Hareketsiz yaşam şekli
• Fast food tarzı beslenme
• Hormonal ve metabolik etmenler
• Sık aralıklarla çok düşük enerjili diyetler

Bu etmenler, aşağıdaki hastalıklardan hangisinin ortaya çıkmasında etkilidir?

- A) Brusella
- B) Obezite
- C) Kolera
- D) Sıtma

7. Ergen bireylere, stresle başa çıkmaları ve kaliteli bir hayat sürdürmeleri için aşağıdakilerden hangisi önerilmez?

- A) Nefes alma ve gevşeme egzersizleri yapmaları
- B) Rahatlatıcı ve eğlendirici hobiler edinmeleri
- C) Dost ve akrabalarıyla zaman geçirmeleri
- D) Tek yönlü beslenmeye özen göstermeleri

8. Sınav kaygısını kontrol etmeye çalışan bir öğrencinin, motivasyonunu artırmak için aşağıdakilerden hangisini benimsemesi doğru olur?

- A) Sınava tam olarak hazırlandığım için başarılı olacağıma inanıyorum.
- B) Bu benim son şansım, kazanmazsam hayatım mahv olur!
- C) Arkadaşlarım kazanır da ben kazanamazsam rezil olurum.
- D) Sınav sırasında bütün bilgilerimi unutursam ne yaparım?

9. Aşağıdakilerden hangisi, alkol kullanımına bağlı olarak artış gösterebilir?

- A) Akademik başarı
- B) Kaliteli yaşam
- C) Suça eğilim
- D) Gelir düzeyi

10. I. Hasta/yaralıların ABC yönünden hızlı bir şekilde değerlendirilmesi
II. Olay yerinde oluşabilecek tehlikelere karşı güvenli bir çevre oluşturulması
III. Hasta/yaralılarda kanama veya kırık olup olmadığına bakılarak hemen müdahale edilmesi
IV. Olayın/kazanın mümkün olduğu kadar hızlı bir şekilde 112 Acil Çağrı Merkezine bildirilmesi

Numaralanmış işlemlerden hangileri ilk yardımın temel uygulamalarından olan "kurtarma" kapsamında yer alır?

- A) I ve III
- B) I ve IV
- C) II ve III
- D) II ve IV

11. Solunum yolu zehirlenmelerinde, bilinci açık olan hasta/yaralıya rahat nefes alabilmesi için aşağıdaki ilk yardım pozisyonlarından hangisinin uygulanması doğrudur?

A)



B)



C)



D)



2. OTURUM

(243) İNGİLİZCE – 4

1-10. sorularda boş bırakılan yere/yerlere uygun gelen kelime ya da ifadeyi işaretleyiniz.

1. **Sarah** : These boxes are very heavy, I can't carry them. Can you - - - -, please?

Matt : Of course.

- A) turn on the heater
- B) help me with my homework
- C) bring something cold
- D) give me a hand

2. **Many people have - - - -, they eat junk or frozen food, watch TV too much, do little physical exercise.**

- A) unhealthy lifestyles
- B) natural sources
- C) traditional costumes
- D) netiquette rules

3. **Local and international films - - - - in Antalya International Film Festival every October.**

- A) watch
- B) are watched
- C) will watch
- D) watched

4. **Brian** : You look ill. Is everything OK?

Sandy : I feel tired. I should - - - -.

- A) stay in bed
- B) take an umbrella
- C) drink cold water
- D) clean the house

5. **I think I am an Internet addict. I spend most of my time by - - - -.**

- A) meeting my friends outside
- B) searching everything in books
- C) playing online games
- D) doing exercise regularly

6. **I think Internet is a useful tool because - - - -.**

- A) it causes various health problems like back pain
- B) we keep in touch with people who are far away from us
- C) it has more disadvantages than advantages
- D) we waste money and time by using it

7. **The building - - - - was destroyed in the fire has been rebuilt.**

- A) when
- B) who
- C) which
- D) where

8. **Benjamin** : I'm too busy with my projects nowadays and I feel very tired. I wish I could - - - -.

- A) work long hours
- B) speak a foreign language
- C) have a driving licence
- D) go on a short holiday

9. **I think a holiday in the mountains is - - - - than a holiday by the sea.**

- A) good
- B) better
- C) the best
- D) very good

10. **Many people in Poland prefer - - - - western-style clothes in their weddings.**

- A) wearing
- B) spending
- C) building
- D) believing

11. Ramadan Feast is celebrated by one billion muslims world wide at the end of the Ramadan every year. It is a three-day festival. People visit each other to improve their relationship and see their relatives.

Bu metinde aşağıdaki sorulardan hangisinin cevabı yoktur?

- A) How many days is it celebrated?
- B) What is done during the celebration?
- C) What preparations are done before the festival?
- D) When is the festival celebrated?

(243) ALMANCA – 4

1-8. sorularda boş bırakılan yere/yerlere uygun gelen kelime ya da ifadeyi işaretleyiniz.

1. **Der Kölner Dom - - - - den Touristen sehr.**

- A) verbringen
- B) gefällt
- C) erzählen
- D) erlebt

2. **Wir - - - - jeden Morgen die Katzen auf der Straße.**

- A) isst
- B) füttern
- C) gefüttert
- D) gegessen

3. **In der türkischen Kultur - - - - man die Verwandten an Festtagen.**

- A) treffen
- B) sehen
- C) besichtigen
- D) besucht

4. **Meine Freunde und ich fahren im Sommer in die Stadt Ağrı. Dort wollen wir den - - - - Ağrı besichtigen. (Dağ)**

- A) Pyramide
- B) Berg
- C) Fluss
- D) See

5. **Die Passagiere müssen zwei Stunden - - - - dem Flug am Flughafen sein. (Önce)**

- A) vor
- B) nach
- C) von
- D) bis

6. **Es gibt einen schönen Weg den Fluss - - - - zu wandern.**

- A) kurz
- B) durch
- C) um
- D) entlang

7. **Kellner** : Was möchten Sie - - - -?
Frau Ekici : Ich möchte gerne Spaghetti mit Soße.

- A) trinkt
- B) gegessen
- C) bestellen
- D) esse

2. OTURUM

8. **A:** - - - - möchtest du deine Eltern zum Frühstück einladen?

B: Am Sonntag um zehn Uhr.

- A) Wen B) Wohin
C) Warum D) Wann

9. Meine Schule hat drei Stockwerke und einen Keller. Im Eingang ist die Bibliothek, das Lehrerzimmer, das Direktorzimmer und ein Arbeitszimmer für Schüler. Im ersten Stock sind Chemie- und Physikräume und ein Labor. Die Klassenzimmer sind im zweiten und dritten Stock. Musik- und Kunsträume sind im Keller.

Welche Information ist nach diesem Text falsch?

- A) Die Schule hat eine Bibliothek.
B) Die Schule hat drei Stockwerke.
C) Die Klassen sind im ersten und zweiten Stock.
D) Die Musik- und Kunsträume sind im Keller.

10. Sabine besucht in den Sommerferien ihre Cousins. Sie leben auf einem Bauernhof im Dorf. Sie haben Kühe, Schafe, Hühner und Hasen. Es macht ihnen großen Spaß, sie zu füttern.

Bu parçaya göre, aşağıdakilerden hangisi yanlıştır?

- A) Sabine besucht ihre Cousins.
B) Sie leben in einem Dorf.
C) Sie wohnen in einem Hochhaus.
D) Sie haben verschiedene Tiere.

11. **Wo kann man Bücher ausleihen?**

- A) Aus der Bibliothek.
B) Aus der Sporthalle.
C) Aus der Mensa.
D) Aus dem Kino.

(243) FRANSIZCA – 4

1-8. sorularda boş bırakılan yere/yerlere uygun gelen kelime ya da ifadeyi işaretleyiniz.

1. **Marie est une femme très romantique: elle va souvent au cinéma pour voir - - - -.**

- A) des concerts de rock
B) des comédies musicales
C) des documentaires sur l'histoire
D) des films d'amour

2. **Quand elle - - - - grande, elle - - - - du plongeon.**

- A) serai / ferai
B) sera / fera
C) seras / feras
D) serez / ferez

3. **Patrick** : Je pars ce soir à Paris. Je prends l'avion dans deux heures.

Léa : A quelle est-ce que tu - - - - à Paris ?

Patrick : A dix-neuf heures.

- A) prend B) va
C) arrives D) part

4. **Dans un hôtel:**

"Bonjour monsieur, je - - - - voir un jeune homme. Il s'appelle Philippe."

- A) pourrait B) voudrais
C) voudrez D) pourrez

5.



Météo: Demain, - - - -.

- A) vous aurez peut-être un peu de neige, mais il n'y aura pas de nuages ni de pluie
B) il y aura un beau jour d'été, du soleil toute la journée et pas de pluie
C) une bonne nouvelle pour les amateurs de ski: de la neige et encore de la neige
D) vous verrez peut-être le soleil, mais en général il y aura des nuages et de la pluie

6. **Les footballeurs courent beaucoup pendant les matchs: ils doivent être - - - -.**

- A) athlétiques et dynamiques
B) forts et gros
C) maigres et gentils
D) heureux et romantiques

7. **A LOUER :**

Appartement 2 chambres 69004 LYON

- Proche des écoles
- Non meublé, cuisine équipée
- 5 minutes à pied au centre-ville
- 620 €
- idéal étudiants
- parking

Cet appartement - - - -.

- A) a trois chambres et une cuisine équipée
B) est à cinq minutes en voiture au centre-ville
C) n'est pas loin du centre-ville et proche des écoles
D) n'ont pas de meuble et de parking

8.

Aimer la nature ; C'est la mode de vie pour moi. Dans la nature, on se promène, on fait un pique-nique. Si vous aimez manger, boire, dormir et s'amuser en plein-air, hors de la maison ; elle vous donne un bon terrain de camping.

Selon le texte ; pour s'amuser en plein air on nous propose, - - - -.

- A) de faire un pique-nique
B) d'aller au camping
C) d'aimer la nature
D) de découvrir la nature

9.



Bu görsele göre, aşağıdakilerden hangisi doğrudur?

- A) Elle se fait maquiller.
B) Elle met son chemisier.
C) Elle s'est cassé le bras.
D) Elle a mal à la jambe.

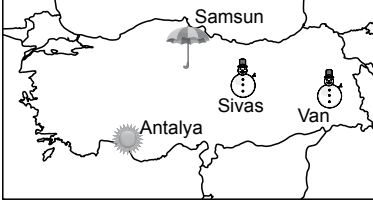
2. OTURUM

10. I. Bonjour Monsieur.
II. Un café au lait, s'il vous plaît.
III. Vous désirez ?
IV. Bonjour Madame.

Karşılıklı konuşmanın doğru sıralanışı aşağıdakilerden hangidir?

- A) I - III - II - IV
B) II - IV - I - III
C) III - IV - I - II
D) IV - I - III - II

11.



Bu görsele göre, aşağıdakilerden hangisi doğrudur?

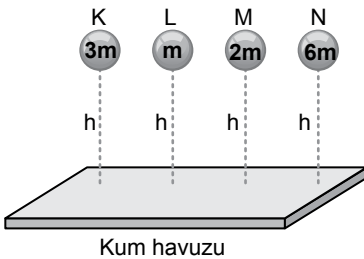
- A) Il y a de la neige à Van.
B) Il pleut à Antalya.
C) Il y a du brouillard à Samsun.
D) Il fait chaud à Sivas.

(422) FİZİK – 2

1. Aşağıdakilerden hangisi iş birimi olan joule'e eşittir?

- A) N . m B) m/s²
C) kg D) j/m

2. Kütleleri 3m, m, 2m ve 6m olan K, L, M ve N topları h yüksekliğinden şekildedeki kum havuzuna aynı anda bırakılıyor.



Buna göre, hangi topun yer çekimi potansiyel enerjisi en azdır?

- A) K B) L C) M D) N

3. Bir ampul 80 J'lük enerjinin 60 J'lük kısmını ısı enerjisine 20 J'lük kısmını ise ışık enerjisine dönüştürebilmektedir.

Buna göre, bu ampulün verimi kaçtır?

- A) %20 B) %25
C) %40 D) %60

4. Aşağıdakilerden hangisi fosil yakıtlardan elde edilen enerji kaynakları içinde yer almaz?

- A) Petrol B) Kömür
C) Doğalgaz D) Rüzgâr

5. Aşağıdaki ifadelerin hangisinde ısı kavramı doğru kullanılmıştır?

- A) Bugün havanın ısısı 22°C'tur.
B) 1 gram saf suyun sıcaklığını 1°C yükselten enerji miktarı 4,18 J'dür.
C) Hasta olan bebeğin vücut ısısı 38°C'tur.
D) Kaynayan çorbanın sıcaklığı 200 J'dür.

6. Celsius termometresinde 47°C okunan sıcaklık değeri, Kelvin ölçekli termometrede kaç olur?

- A) 226 B) 273
C) 320 D) 347

7. Tabloda eşit kütleli K, L, M ve N maddelerinin öz ısı değerleri verilmiştir.

Maddeler	Öz Isı (Cal/g°C)
K	0,2
L	0,1
M	0,09
N	0,03

Buna göre, maddelere eşit miktarda ısı verildiğinde hangi maddenin sıcaklığı diğerlerine göre daha fazla artar?

- A) K B) L C) M D) N

8. Yalıtılmış bir ortamda bulunan sıvıların sıcaklıkları 20°C ve 30°C'tur.

Bu sıvılar aynı kaba konulup karıştırıldığında denge sıcaklığı (T_d) kaç olabilir?

- A) 15 B) 25 C) 32 D) 50

9. Fizik biliminde durgun elektrik yüklerini ve bu yükler arasındaki etkileşmeyi inceleyen bölüm aşağıdakilerden hangisidir?

- A) Termodinamik
B) Mekanik
C) Katı hâl
D) Elektrostatik

10. Aşağıdakilerden hangisi elektrik yüklerine ait bir özellik değildir?

- A) Yüklü cisimler birbirlerine elektriksel kuvvet uygulamaz.
B) Elektriklenme elektron alışverişi ile olur.
C) Doğada iki cins elektrik yükü vardır.
D) Nötr cisim, çevresine elektriksel bir etki göstermez.

11. Aralarındaki uzaklık d olan q₁ ve q₂ noktasal yükleri birbirlerine F kadar kuvvet uygulamaktadır.



Buna göre, yükler arası uzaklık 3 katına çıkarılırsa elektriksel kuvvet kaç F olur?

- A) $\frac{F}{3}$ B) $\frac{F}{6}$ C) $\frac{F}{9}$ D) $\frac{F}{16}$

2. OTURUM

(423) FİZİK – 3

1. Akım şiddetinin birimi aşağıdakilerden hangisidir?

- A) Amper B) Coulomb
C) Volt D) Ohm

2. Bir elektrik devresinde, devrenin direncini değiştirmeye yarayan araç aşağıdakilerden hangisidir?

- A) Voltmetre B) Reosta
C) Ampermetre D) Pil

3. Boyları ve kalınlıkları eşit olan iki bakır telin her birinin direnci 6Ω 'dur.

Buna göre, bakır teller üst üste konulduğunda oluşturulan yeni telin direnci kaç Ω olur?

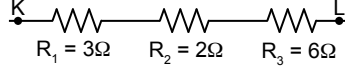
- A) 12 B) 8 C) 6 D) 3

4. Bir ampulün uçları arasına 20 V'luk bir pil bağlandığında ampulden 4 A şiddetinde akım geçmektedir.

Buna göre, ampulün direnci kaç Ω 'dur?

- A) 5 B) 4 C) 2 D) 1

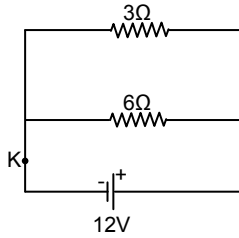
5. Üzerinde dirençleri gösterilen KL devre parçası şekildeki gibidir.



Buna göre, KL arasındaki eş değer direnç kaç Ω 'dur?

- A) 11 B) 9 C) 8 D) 1

6. Bir elektrik devresine ait şema şekildeki gibidir.



Buna göre, tel üzerindeki K noktasından geçen akım kaç amperdir?

- A) 10 B) 8 C) 6 D) 3

7. Aşağıdakilerden hangisi mıknatıs tarafından çekilmez?

- A) Demir B) Nikel
C) Kobalt D) Plastik

8. Katı bir cismin basıncı ile ilgili;

- I. Ağırlığı ile doğru orantılıdır.
II. Yere temas eden yüzey alanı ile ters orantılıdır.
III. Yerden yüksekliği ile doğru orantılıdır.

yargılarından hangileri doğrudur?

- A) Yalnız I B) Yalnız II
C) I ve II D) I, II ve III

9. Pascal prensibi ile ilgili;

- I. Kapalı kaplarda bulunan sıvılar için geçerlidir.
II. Sıvılar basıncı aynen iletirken basınç kuvvetini aynen iletmezler.
III. Sıvılar, basıncın büyüklüğünü değiştirmeden yön ve doğrultusunu değiştirebilirler.


yargılarından hangileri doğrudur?

- A) Yalnız I B) Yalnız II
C) Yalnız III D) I, II ve III

10. Kapalı kaptaki gaz basıncı aşağıdakilerin hangisi ile ölçülür?

- A) Altimetre B) Manometre
C) Batimetre D) Barometre

11. Kesit alanı 2S olan K borusu ile kesit alanı S olan L borusu şekildeki gibi birbirine bağlanıp içinden su geçiriliyor.



Buna göre,

- I. K borusunda suyun, boru yüzeyine uyguladığı basınç L'dekinden büyüktür.
II. K borusunda suyun, boru yüzeyine uyguladığı basınç L'dekinden küçüktür.
III. K borusundaki suyun sürati L borusundakinden daha yavaştır.

yargılarından hangileri doğrudur?

- A) Yalnız I B) Yalnız II
C) I ve III D) II ve III

2. OTURUM

(424) FİZİK – 4

1. I. Hava
II. Su
III. Sarmal yay

Hangileri esnek ortama örnek verilir?

- A) I ve II B) I ve III
C) II ve III D) I, II ve III

2. Periyot ve frekans kavramları arasında $T.f = 1$ ilişkisi vardır.

Buna göre, frekansı 3 s^{-1} olan dalganın periyodu kaç s'dir?

- A) $\frac{1}{3}$ B) $\frac{1}{2}$ C) 2 D) 3

3. Aşağıdakilerden hangisi mekanik dalgalara örnektir?

- A) Radyo dalgası
B) Görünür ışık
C) Morötesi ışınlar
D) Su dalgası

4. Esnek bir yay üzerinde oluşturulan atmanın ilerleme hızı ile ilgili;

- I. Yayı geren kuvvet arttıkça atmanın yayılma hızı artar.
- II. Yayı geren kuvvet azaldıkça atmanın yayılma hızı azalır.
- III. Yayı geren kuvvet ve yayın uzunluğu sabit tutularak yayın kütlesi arttırılırsa atmanın yayılma hızı artar.

İfadelerinden hangileri doğrudur?

- A) Yalnız I B) I ve II
C) II ve III D) I, II ve III

5. Gözlerimiz kapalıyken aynı müzik parçasını piyano ve kemandan dinlersek bu iki müzik aletini birbirinden ayırt edebiliriz.

Buna göre, dinlediğimiz bu sesler arasındaki farklılık aşağıdaki olaylardan hangisiyle açıklanır?

- A) Yankı
B) Rezonans
C) Frekans
D) Sesin tınısı

6. Aşağıdakilerden hangisi deprem anında yapılması gerekenlerden biridir?

- A) Gaz kaçağı, yangına karşı gaz vanası, elektrik sigortaları otomatik hâle getirilmelidir.
B) Sabitlenmemiş dolap, raf ve pencere gibi eşyalardan uzak durulmalıdır.
C) Konutlara deprem sigortası yaptırılmalıdır.
D) Tüm bireylerin katılımı ile "afete hazırlık planlaması" yapılmalıdır.

7. Aşağıdakilerden hangisi ışık şiddeti birimidir?

- A) lümen B) lüks
C) candela D) amper

8. Düzgün yansıtıcı yüzeye 42° lik gelme açısı ile gelen ışın, kaç dereceyle yansıma açısı ile yansır?

- A) 21 B) 42 C) 48 D) 90

9. Ayşe, hava ortamında iken göl içindeki balık ve taşlara bakmaktadır.

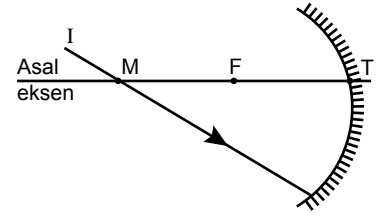
Buna göre,

- I. Ayşe, göl içindeki balığı kendine daha uzak görür.
- II. Göl içindeki balık, Ayşe'yi daha uzak görür.
- III. Ayşe göl içindeki taşı kendine daha yakın görür.

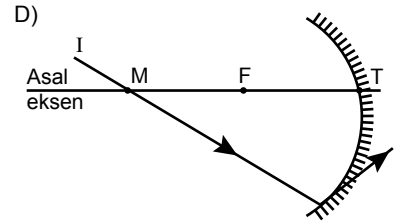
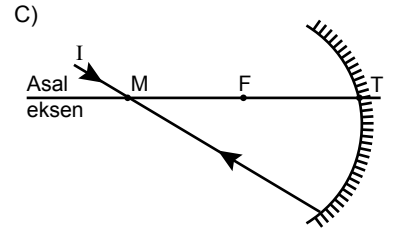
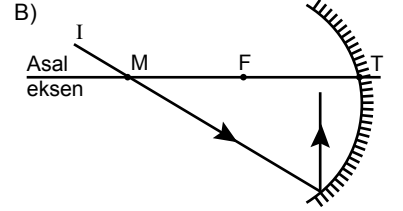
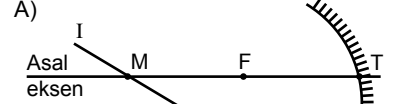
İfadelerinden hangileri doğrudur?

- A) Yalnız I B) Yalnız III
C) I ve II D) II ve III

- 10.



Şekildeki çukur aynanın merkezinden gelen I ışık ışınının yansıdıktan sonra izleyeceği yol, aşağıdakilerin hangisinde doğru gösterilmiştir? (M: Merkez, F: Odak noktası, T: Tepe noktası)



11. Kırmızı, yeşil ve mavi renkli ışınlar beyaz bir perde üzerindeki aynı noktaya düşürülürse perde üzerindeki nokta hangi renkte görülür?

- A) Beyaz B) Mavi
C) Yeşil D) Kırmızı

2. OTURUM

(431) KİMYA – 1

1. **Simyadan kimyaya geçiş sürecinde etkili olan kişilerin çalışmaları ile ilgili aşağıdaki ifadelerden hangisi doğrudur?**

- A) Ebubekir er-Râzî elektroliz deneyleri yapmıştır.
- B) Ebu Musa Cabir bin Hayyan petrolden benzini ayırtmıştır.
- C) Robert Boyle dört element teorisini bulmuştur.
- D) Antoine Lavoisier kütle korunumu yasasını bulmuştur.

2. **Kimyanın daha çok nitel ve nicel olarak incelemesini yapan ana bilim dalı, - - - kimyadır. Örneğin hastalık tanısı için yapılan pH ölçümü, ilaçların yapısındaki maddelerin oranları, titrasyon deneyleri vb. kimyanın bu alanı ile ilgilidir.**

Bu metindeki boş bırakılan yere aşağıdakilerden hangisi getirilmiştir?

- A) organik
- B) analitik
- C) anorganik
- D) polimer

3. **Aşağıdaki element adı-sembol eşleştirmelerinden hangisi doğrudur?**

- A) Fosfor - P
- B) Kalsiyum - K
- C) Kurşun - Cu
- D) Azot - Na

4. **Yaygın adı potas kostik olan bileşiğin formülü aşağıdakilerden hangisidir?**

- A) KOH
- B) Ca(OH)₂
- C) NaOH
- D) HNO₃

5. **Belirli derişimlerde standart çözeltiler hazırlamak için kullanılan cam malzemelerdir. İnce boyun kısmında hacmini net olarak gösteren bir çizgi bulunur.**

Bu metinde anlatılan laboratuvar malzemesi aşağıdakilerden hangisidir?

- A) Pipet
- B) Huni
- C) Balon joje
- D) Cam balon

6. **Bohr Atom Modeli'ne göre aşağıdaki ifadelerden hangisi doğrudur?**

- A) Çekirdeğe en yakın elektronun enerjisi en yüksektir.
- B) Birinci yörüngede en fazla 8 elektron bulunabilir.
- C) Elektronlar K, L, M... ile de gösterilebilen enerji seviyelerinde bulunur.
- D) Atom, artı yüklü madde içine gömülü elektronlardan oluşur.

7. **¹⁰Ne atomu ile izoelektronik olan -4 yüklü bir taneciğin kütle numarası 14 ise nötron sayısı kaçtır?**

- A) 6
- B) 8
- C) 10
- D) 14

8. **Periyodik sistemin tarihçesi ile ilgili aşağıdakilerden hangisi doğrudur?**

- A) Mendeleev, elementleri artan atom numarasına göre sıralamıştır.
- B) Moseley, elementleri artan kütle numarasına göre sıralamıştır.
- C) Moseley, modern periyodik sistemdeki elementlerin tamamını bulmuştur.
- D) Mendeleev, benzer özelliğe sahip elementleri alt alta getirerek bir çizelge oluşturmuştur.

9. **Modern periyodik sistemle ilgili aşağıdakilerden hangisi doğrudur?**

- A) Periyodik sistemde toplam 8 grup vardır.
- B) Periyodik sistemdeki en çok elektrona sahip elementin 7. katmanı doludur.
- C) Evrende bilinen 158 element periyodik sisteme günümüzde yerleştirilmiştir.
- D) Metal elementlerin tamamı periyodik sistemde B gruplarında bulunur.

10. **Oksijen elementinin bir izotopuna ait katyon, nötr ve anyon taneciklerinin çekirdek yükü, elektron sayısı ve yarıçapları tabloda verilmiştir.**

	Çekirdek Yükü	Elektron Sayısı	Tanecik Yarıçapları
O ²⁺	8	6	●
O	8	8	●
O ²⁻	8	10	●

Buna göre, oksijen elementinin bu izotopu ile ilgili aşağıdakilerden hangisi yanlıştır?

- A) Elektron sayısı azaldıkça proton sayısı artmıştır.
- B) Elektron aldıkça çapı büyümüştür.
- C) Kütle numaraları eşittir.
- D) Çekirdek yükü, iyon yüküne bağlı değildir.

11. **Gaz hâlindeki nötr atomun, bir elektron alması sonucu atomda meydana gelen enerji değişimi aşağıdakilerden hangisiyle adlandırılır?**

- A) Elektronegatiflik
- B) İyonlaşma enerjisi
- C) Elektron ilgisi
- D) Nükleer enerji

2. OTURUM

(437) SEÇMELİ KİMYA – 3

1. H_3AsO_4 bileşiğinde As elementinin yükseltgenme basamağı aşağıdakilerden hangisidir?

- A) +1 B) +3 C) +5 D) +7

2. Redoks tepkimelerinde bir taneciğin elektron alma ya da verme durumuna bakılarak "yükseltgen" ya da "indirgen" olduğuna karar verilir.

Buna göre, aşağıdakilerin hangisinde tepkimeye giren tanecik indirgendir?

	Tepkimeye Giren Tanecik	Tepkimede Oluşan Tanecik
A)	Fe^{+2}	Fe
B)	O_2	O^{-2}
C)	Cl^{+5}	Cl^{-}
D)	H_2	H^{+}

3. Aşağıdakilerden hangisi elektrokimyasal pil düzeneklerinde kullanılan tuz köprüsünün görevlerinden değildir?

- A) İyonların katot ve anot bölmeleri arasında göç etmesine izin verir.
B) Anot ve katot bölmelerinin yük denliğini korur.
C) Çözeltilerin elektrik akımını iletmesine yardımcı olur.
D) Katot bölgesinin ihtiyacı olan eksi yüklü iyonları sağlar.

4. Bazı elementlerin standart indirgenme potansiyelleri (E°) tabloda verilmiştir.

İndirgenme Yarı Tepkimesi	E° (V)
$Ca^{2+}(aq) + 2e^- \rightarrow Ca(k)$	-2,866
$Al^{3+}(aq) + 3e^- \rightarrow Al(k)$	-1,662
$Cu^{2+}(aq) + 2e^- \rightarrow Cu(k)$	+0,337
$Ag^+(aq) + e^- \rightarrow Ag(k)$	+0,799

Bu elementler kullanılarak oluşturulan aşağıdaki elektrokimyasal pillerden hangisinin başlangıçtaki standart pil potansiyeli en büyüktür?

- A) Ca – Ag B) Ca – Cu
C) Al – Cu D) Al – Ag

5. Aşağıdaki metallere hangisi HCl sulu çözeltisi ile kimyasal reaksiyon vererek H_2 gazı açığa çıkarır? (Yükseltgenme eğilimleri $Zn > H_2 > Cu > Ag > Au$)

- A) Zn B) Ag
C) Cu D) Au

6. İçinde $AlCl_3$ sıvısı bulunan bir elektroliz devresinden 100 saniye boyunca 9,65 amperlik yük geçtiğine göre katotta kaç gram alüminyum birikir? ($Al = 27 \text{ g/mol}$, $1 \text{ mol } e^- \cong 96 \text{ 500 C}$)

- A) 0,01 B) 0,09
C) 0,27 D) 0,81

7. Aşağıdaki bileşiklerden hangisi anorganiktir?

- A) CH_4 B) CH_3COOH
C) Na_2CO_3 D) C_2H_5OH

8. C_2H_2 molekülünün Lewis gösterimi verilmiştir.



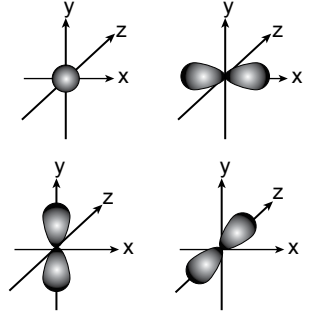
Bu molekül için aşağıdakilerden hangisi doğrudur?

- A) 2 sigma, 3 pi bağı bulunur.
B) Molekül doğrusaldır.
C) C atomları sp^3 hibritleşmesi yapmıştır.
D) Molekül polardır.

9. Lewis formülleri verilen aşağıdaki bileşiklerden hangisinin VSEPR gösterimi doğrudur?

Lewis Formülü	VSEPR Gösterimi
A) $H:\ddot{N}:H$ H	AX_3
B) $H:Be:H$	AX_3E
C) $H:\ddot{C}:H$ H	AE_4
D) $H:\ddot{O}:H$ H	AX_2E_2

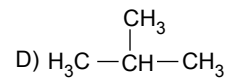
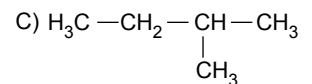
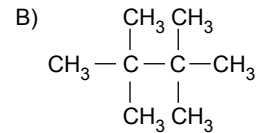
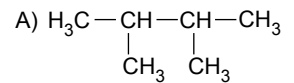
10. ${}_6C$ atomunun 2. enerji düzeyindeki orbitalleri görselde verilmiştir.



Bu dört orbitalin tümünün hibritleşmesi sonucu oluşan hibrit orbitalleri ile yeterli sayıda H atomları arasında oluşacak kararlı bileşikte kaç tane kovalent bağ vardır?

- A) 1 B) 2 C) 3 D) 4

11. Yarı açık formülleri verilen aşağıdaki bileşiklerden hangisinin basit formülü ile bileşik formülü aynıdır?



2. OTURUM

(438) SEÇMELİ KİMYA – 4

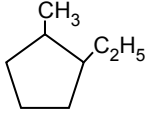
1. Aşağıdaki moleküllerden hangisi hidrokarbondur?

- A) C_2H_6 B) CH_3Cl
C) C_2H_5OH D) $C_2H_5NH_3$

2. Kapalı formülleri verilen ve düz zincirli olduğu bilinen aşağıdaki moleküllerden hangisi pi bağı içerir?

- A) C_3H_8 B) C_4H_{10}
C) C_5H_{10} D) C_6H_{14}

3.



Bu organik bileşiğe IUPAC kurallarına göre, verilen ad aşağıdakilerden hangisidir?

- A) 1,2-Dimetil siklopentan
B) 1,2-Dietil sikloheksan
C) 1-Metil-2-etil sikloheksan
D) 1-Etil-2-metil siklopentan

4. Aşağıdaki alkollerden hangisinin aynı koşullardaki kaynama noktası en büyüktür?

- A) H_3C-OH
B) $H_2C(OH)-CH(OH)-CH_2(OH)$
C) $H_3C-CH(OH)-CH_3$
D) $H_3C-C(OH)(CH_3)-CH_3$

5. $H_3C-C\equiv C-H$ bileşiğinin yaygın adı aşağıdakilerden hangisidir?

- A) Asetilen
B) Propil asetilen
C) Etil asetilen
D) Metil asetilen

6. Aşağıdakilerden hangisi dietil eter bileşiğinin fonksiyonel grup izomeridir?

- A) 1-Bütanol
B) 1-Bütanon
C) 1-Bütanon
D) 1-Bütanoik asit

7. Organik bir bileşiğin bazı özellikleri verilmiştir.

- 1 molünün tam yanması sonucu 3 mol CO_2 gazı açığa çıkar.
- İndirgendisinde alkol oluşur.
- Fehling çözeltisi ile gümüş aynası oluşturur.

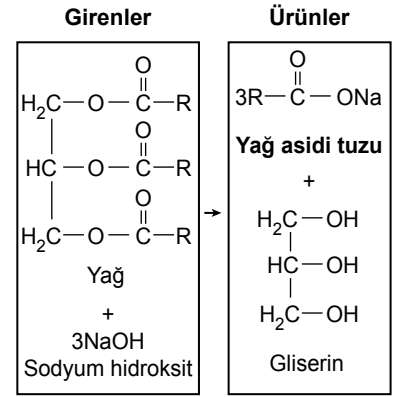
IUPAC kurallarına göre, bu bileşiğe verilen ad aşağıdakilerden hangisidir?

- A) Propanal
B) Propanon
C) 2-Metil propanal
D) 2-Propanol

8. Yaygın adı dietil keton olan madde aşağıdakilerden hangisidir?

- A) $H_3C-C(=O)-OH$
B) $C_2H_5-C(=O)-C_2H_5$
C) $H_3C-C(=O)-O-CH_3$
D) $H-C(=O)-O-C_2H_5$

9. Kimya laboratuvarında yapılan bir deneyin reaksiyonu aşağıdaki gibi gösterilmiştir.



Buna göre, deney sonucunda elde edilen yağ asidi tuzunun günlük hayattaki adı aşağıdakilerden hangisidir?

- A) Sabun B) Sirke
C) Tereyağı D) Mum

10. • Enerji verimliliği diğer kimyasal yakıtlara göre daha yüksektir.
• Yakıt olarak kullanılan madde yandığında yalnızca su açığa çıktığı için temiz enerjidir.
• Sodyum borhidrür ($NaBH_4$) gibi hidrür bileşikler bu enerji kaynağı için önemlidir.

Bu özellikler aşağıdaki enerji türlerinden hangisine aittir?

- A) Jeotermal enerji
B) Hidrojen enerjisi
C) Nükleer enerji
D) Güneş enerjisi

11. Nanoteknoloji ile ilgili aşağıdaki ifadelerden hangisi yanlıştır?

- A) Kanser hastalığının tedavisinde kullanılan akıllı kemoterapi ilaçları nanosensörler sayesinde kanserli hücreleri tespit etmektedir.
B) Nanofilm kaplı kumaşlardan leke tutmayan, ütü gerektirmeyen ve su geçirmeyen özellikte giysiler üretilmektedir.
C) Nano ölçekte devre elemanlarının kullanıldığı cep telefonu ve bilgisayarların boyutları büyürken hızı, kapasitesi ve enerji verimliliği artmaktadır.
D) Kil nanotüpler içeren plastik ambalaj malzemeleri sayesinde oksijen ve nem geçirgenliği azaltılarak gıdaların raf ömrü uzatılmaktadır.

2. OTURUM

(442) BİYOLOJİ – 2

1. **Canlıların sınıflandırılması ile ilgili aşağıdakilerden hangisi doğrudur?**

- A) Tamamlayıcı ad akrabalık derecesini belirtir.
- B) Aynı takımdaki canlılar aynı şubede bulunur.
- C) Aynı âlemdeki canlılar türdekilere göre daha yakın akraba olabilir.
- D) Aynı cinsteki canlılar farklı âlemlerde olabilir.

2. **İkili adlandırmaları verilen canlı türlerinden,**

- I. *Lepisosteus osseus*,
- II. *Lepisosteus spatula*,
- III. *Polyodon spathula*,
- IV. *Eirenis collaris*

hangileri birbirine daha yakın akrabadır?

- A) I - II
- B) I - III
- C) II - III
- D) II - IV

3. **Bakterilerin kromozom formülü aşağıdakilerden hangisi ile gösterilir?**

- A) n
- B) $2n$
- C) $3n$
- D) $4n$

4. **Bakterilerde plazmitlerin diğer bakterilere aktarılması olayı aşağıdakilerden hangisidir?**

- A) Konjugasyon
- B) Replikasyon
- C) Remediasyon
- D) Gen terapisi

5. **Aşağıdaki canlılardan hangisi protista grubundadır?**

- A) Sünger
- B) Kara yosunu
- C) Kültür mantarı
- D) Amip

6. **Mantarlarda aşağıdaki organik moleküllerden hangisi bulunmaz?**

- A) Protein
- B) Kitin
- C) Nişasta
- D) Glikojen

7. **Yeşil bitkiler ile ilgili aşağıdakilerden hangisi doğrudur?**

- A) Bir hücreli canlılardır.
- B) Hücre duvarı kitin yapılıdır.
- C) Sadece eşeysiz olarak ürerler.
- D) Besin ve oksijen kaynağıdır.

8. **Aşağıdaki canlı gruplarından hangisinde omurgalı canlı bulunmaz?**

- A) Balıklar
- B) Sürüngenler
- C) Halkalı solucanlar
- D) Kuşlar

9. **Aşağıdaki canlılardan hangisi memelidir?**

- A) Salyangoz
- B) Çekirge
- C) Kertenkele
- D) Yarasa

10. **Canlıların biyolojik süreçlere ve ekonomiye katkıları ile ilgili aşağıdakilerden hangisi yanlıştır?**

- A) Fotosentez yapan algler atmosferdeki oksijenin çoğunu üretir.
- B) Mantarlardan antibiyotik ve ilaç üretilir.
- C) Bakterilerin hepsi insan sağlığına faydalıdır.
- D) Tekstil sanayisinde lifli bitkilerden yararlanılır.

11. **Aşağıdakilerden hangisi virüs kaynaklıdır?**

- A) Menisküs
- B) Burkulma
- C) Çıkkık
- D) Grip

(444) BİYOLOJİ – 4

1. **Ekosistemler ile ilgili aşağıdakilerden hangisi yanlıştır?**

- A) Komünitede meydana gelen değişimler ekosistemi etkiler.
- B) Ekosistemler tür çeşitliliği bakımından değişkenlik gösterir.
- C) Yeryüzünde kara ve su ekosistemi olarak iki temel ekosistem bulunur.
- D) Çöl ekosistemleri tür çeşitliliği bakımından çok zengindir.

2. **Karasal bir besin piramidinde otçul bir canlı kaçınıcı trofik düzeyde yer alır?**

- A) Birinci
- B) İkinci
- C) Üçüncü
- D) Dördüncü

2. OTURUM

3. "Bitki – fare – yılan – şahin"den oluşan besin zincirinde biyolojik birikimin en az olduğu canlı aşağıdakilerden hangisidir?

- A) Bitki B) Fare
C) Yılan D) Şahin

4. Besin piramidinde bir beslenme basamağından diğer basamağa yaklaşık olarak aktarılan enerji oranı % kaçtır?

- A) 5 B) 10 C) 25 D) 75

5. Doğadaki azot ile ilgili aşağıdakilerden hangisi doğrudur?

- A) Hayvanlar atmosferdeki azotu doğrudan kullanır.
B) Bitkiler topraktaki azotlu organik atıkları doğrudan kullanır.
C) Denitrifikasyon bakterileri, topraktaki azotu atmosfere verir.
D) Atmosferdeki serbest azot miktarı %3'ün altındadır.

6. Aşağıdakilerden hangisi biyolojik çeşitliliğin azalmasının nedenlerinden değildir?

- A) İnsan nüfusunun çok hızlı artması
B) Küresel iklim değişikliğinin artması
C) Gen bankalarının sayısının artması
D) Doğal kaynakların aşırı kullanılması

7. Aşağıdakilerden hangisi karbon ayak izini düşürür?

- A) Kırmızı et tüketimini artırmak
B) Toplu taşıma yerine kişisel otomobil kullanmayı tercih etmek
C) Ormanlık alanları artırmak
D) Ambalajlanmış gıdaları fazla miktarda tüketmek

8. Çevre ile ilgili aşağıdakilerden hangisi yanlıştır?

- A) Doğal kaynaklar tükenmez kaynaklardır.
B) Her canlı, yaşamak için besin maddeleri ve enerji kullanmak zorundadır.
C) Son yıllarda meydana gelen kuraklık ve ekosistemlerin tahribatı farkındalık uyandırmıştır.
D) Bölgesel başlayan bir sorun küresel ölçekte bir soruna dönüşebilir.

9. Aşağıdakilerden hangisi çevre dostu yeşil binalarda bulunmaz?

- A) Yağmur suyu deposu
B) Güneş enerjisi paneli
C) Yalıtımsız çatı
D) Tasarruflu ampul

10. Aşağıdakilerden hangisi Türkiye'deki endemik canlılardandır?

- A) Sazan balığı
B) Karaçam
C) Ankara keçisi
D) Sığır

11. Canlıları kendi habitatlarında korumayı amaçlayan yöntem aşağıdakilerden hangisidir?

- A) Yapay koruma
B) Hayvanat bahçesi
C) Gen bankası
D) Doğal koruma

(447) SEÇMELİ BİYOLOJİ – 3

1. Aşağıdaki hücresel yapılardan hangisinde nükleik asit bulunmaz?

- A) Kloroplast B) Mitokondri
C) Golgi aygıtı D) Çekirdek

2. Aşağıdakilerden hangisi nükleotitlerin yapısında bulunur?

- A) Amino grubu
B) Radikal grup
C) Azotlu organik baz
D) Yağ asidi

3. DNA'da A, G, S ve T harflerinin tekrarlanmasıyla ifade edilen nükleotit dizisi aşağıdakilerden hangisiyle adlandırılır?

- A) Nükleozit
B) Genetik kod
C) Antikodon
D) Replikasyon

4. Aşağıdakilerden hangisi RNA'da bulunan bir kodon olabilir?

- A) ATG B) TAA
C) SAT D) AUG

5. Aşağıdakilerden hangisi protein sentezi mekanizmasında görev almaz?

- A) Lizozom B) DNA
C) Ribozom D) RNA

2. OTURUM

(451) SEÇ. ÇAĞDAŞ TÜRK VE DÜNYA TARİHİ – 1

6. Başka bir canlının geni aktararak genetik yapısı değiştirilen canlı aşağıdakilerden hangisiyle adlandırılır?

- A) Endemik tür
- B) Transgenik organizma
- C) Donör hücre
- D) Kök hücre

7. Canlılarda enerji ile ilgili aşağıdakilerden hangisi söylenemez?

- A) Canlılar için en önemli enerji kaynağı, Güneş'tir.
- B) Canlılara iş yapabilme yeteneği verir.
- C) Bir formdan başka forma dönüşebilir.
- D) Fosforilasyon ile ATP molekülündeki enerji açığa çıkar.

8. Fotosentezde açığa çıkan serbest oksijenin kaynağı aşağıdakilerden hangisidir?

- A) Karbondioksit
- B) Işık
- C) Glikoz
- D) Su

9. Aşağıdakilerden hangisi kemosentezde enerji kaynağı olarak kullanılmaz?

- A) Selüloz
- B) Demir
- C) Kükürt
- D) Hidrojen

10. Bataklıklarda oluşan kötü kokunun sebebi aşağıdaki gazlardan hangisi olabilir?

- A) Oksijen
- B) Hidrojen sülfür
- C) Ozon
- D) Azot

11. Aşağıdakilerden hangisi oksijenli solunum aşamalarından değildir?

- A) Glikoliz
- B) Krebs döngüsü
- C) Elektron taşıma sistemi
- D) Fermantasyon

1. Bu büyük savaşın yaşanmasında devletler arası özel sorunların (Alsas Loren), sömürgecilik yarışından doğan bloklaşmanın ve silahlanmanın etkisi olmuştur.

Bu bilgide sözü edilen savaş aşağıdakilerden hangisidir?

- A) I. Dünya
- B) Vietnam
- C) Kore
- D) II. Balkan

2. 1929 Dünya Ekonomik Buhranı, Almanya'da savaş yanlısı bir partinin zafer kazanmasına neden olmuştur.

Bu gelişme, ekonomik krizlerin hangi alana etkisine örnektir?

- A) Kültürel
- B) Sosyal
- C) Siyasi
- D) Hukuki

3. Wilson İlkeleri gereği Cemiyet-i Akvamın kurulmasına aşağıdakilerden hangisinde karar verilmiştir?

- A) Paris Barış Konferansı'nda
- B) Lozan Barış Konferansı'nda
- C) Versay Antlaşması'nda
- D) Zürih Antlaşması'nda

4. Avrupa devletlerinin sömürgeci ideallerini devam ettirmelerine olanak sağlayan kavram aşağıdakilerden hangisidir?

- A) Selfdeterminasyon
- B) Manda ve himaye
- C) Klasik diplomasi
- D) Monroe Doktrini

5. Azerbaycan Halk Cumhuriyeti'nin üç ideali, "Türkleşmek-İslamlaşmak-Muasırlaşmak" olmuştur. Bu idealler, Azerbaycan bayrağının üç temel rengini oluşturmuştur. Sovyet idaresi 28 Nisan 1920'de bu devlete son vererek yönetimi ele almıştır. Millî aydın ve din adamları; Pantürkist, Panislamcı ve Türkiye ajanı gibi yaf-talar vurularak zindanlara atılmış veya öldürülmüşlerdir.

Buna göre, Azerbaycan Halk Cumhuriyeti ile ilgili aşağıdakilerden hangisine ulaşılamaz?

- A) Aydın ve din adamları Sovyetler tarafından baskı görmüştür.
- B) Bayrağının renkleri belli idealleri simgelemiştir.
- C) Sovyet yönetiminin hâkimiyeti altına girmiştir.
- D) Anayasasını Türkiye Cumhuriyeti'ni örnek alarak oluşturmuştur.

6. Aşağıdakilerden hangisi 1925 Locarno Antlaşması'nın kısa vadeli sonuçları arasında yer almaz?

- A) Fransa ve Almanya arasındaki ilişkilerin normalleşmesi
- B) Almanya'nın yeniden Avrupa'nın büyük devletleri arasına girmesi
- C) Fransa'nın, dünya politikasının merkezi hâline gelmesi
- D) Almanya'nın, Milletler Cemiyetine üye olması

7. İngiltere Başbakanı Chamberlain'in yayımlı ve saldırgan olan Almanya'ya karşı izlediği pasif politikaya verilen ad aşağıdakilerden hangisidir?

- A) Yalnızlık Siyaseti
- B) Çoğunluk Planı
- C) Yatıştırma Siyaseti
- D) Marshall Planı

8. "Birleşmiş Milletler" kavramını ilk kez kullanan devlet adamı aşağıdakilerden hangisidir?

- A) Stalin
- B) Roosevelt
- C) Mussolini
- D) Hirohito

2. OTURUM

9. ABD'nin öncülüğünde kurulan NATO, Batı Bloku'nun savunma gücünü temsil ediyordu. SSCB, komünizme karşı en ciddi cepheyi oluşturan NATO'nun etkinliğini ve silahlı gücünü tehdit olarak gördü ve Varşova Paktını kurdu.

Buna göre, aşağıdakilerden hangisine ulaşılabilir?

- A) ABD ve SSCB'ye bağlı askerî teşkilatlar kurulmuştur.
B) SSCB, Avrupa ülkelerinde komünizmi yaymıştır.
C) SSCB ve ABD arasında sıcak çatışmalar yaşanmıştır.
D) ABD, NATO aracılığıyla ekonomik imtiyazlar elde etmiştir.

10. Avrupa; 20. yüzyılda iki küresel savaşı, bu savaşlarda milyonlarca Avrupalının öldürülmesini, iktidarların düşmanlıklarını, baskıcı rejimlerin yayılmasını ve büyük ekonomik krizi kapsayan felaketleri yaşadı. Bütün bu acı tecrübeleri yaşamış savaş sonrası kuşağın önde gelen Avrupalı siyasetçileri, birbirlerinin siyasal tercihlerini bir kenara bırakarak iş birliği yoluna gittiler.

Buna göre, 20. yüzyılda Avrupa kıtası ile ilgili aşağıdakilerden hangisine ulaşamaz?

- A) Büyük savaşlar sonucu çok sayıda insan kaybı yaşanmıştır.
B) Demokratik kültüre yabancı yönetimler kurulmuştur.
C) Yaşanılan buhranlar bazı yöneticileri barışçıl birliklere yöneltmiştir.
D) Ekonomik rekabet ve sömürge yarışı hız kazanmıştır.

11. Dersinde "Cezayir'de Fransa'ya karşı girişilen bağımsızlık savaşına katılanların kimliklerini öğrenmek isteyen Fransızlar, gönüllülerin üzerinde her defasında Mustafa Kemal'in kalpaklı fotoğrafını bulmuşlardır." **örneğini veren tarih öğretmeni öncelikle aşağıdakilerden hangisini vurgulamak istemiştir?**

- A) Kurtuluş Savaşı'nın başka mazlum milletleri de etkilediğini
B) Fransızların Afrika'da sömürgeler elde ettiğini
C) Cezayir'in ve Türkiye'nin iki dost ülke olduğunu
D) Türkiye'nin, Cezayir'in bağımsızlık mücadelesine destek verdiğini

(455) SEÇ. DEM. VE İNSAN HAK. – 1

1. Kişilerin birtakım haklara sahip olması, bu hakların gerçekleşmesi için başka kişilere ve devlete birtakım ödev ve sorumluluklar yükler.

Bu cümle, aşağıdaki kavramların hangileri arasındaki ilişkiyi ortaya koyar?

- A) Hak ve sorumluluk
B) Laiklik ve eşitlik
C) Bağımsızlık ve gelenek
D) Yetki ve otorite

2. Hukuk tarafından düzenlenmiş geniş serbestlik alanını ifade eden kavram aşağıdakilerden hangisidir?

- A) Kişi
B) Adalet
C) Hak
D) Özgürlük

3. "Belli bir ülkede, belli bir dönemde yürürlükte bulunan hukuk kurallarının bütünü" **aşağıdakilerden hangisiyle ifade edilir?**

- A) Doğal hukuk
B) Pozitif hukuk
C) Sorumluluk
D) Eşitlik

4. Ailenin korunması, eğitim ve öğretim, çalışma ve sözleşme, dinlenme ve sendika kurma hakları **aşağıdaki temel hak ve özgürlüklerden hangisi kapsamındadır?**

- A) Koruyucu haklar
B) Katılma hakkı
C) İsteme hakları
D) Yaşama hakkı

5. • Herkes; yaşama, maddi ve manevi varlığını koruma ve geliştirme hakkına sahiptir.
• Herkes, sağlıklı ve dengeli bir çevrede yaşama hakkına sahiptir.
• Herkes, özel hayatına ve aile hayatına saygı gösterilmesini isteme hakkına sahiptir.

Bu açıklamalar aşağıdaki haklarla eşleştirildiğinde hangisi dışta kalır?

- A) Eğitim
B) Yaşama
C) Özel yaşamın gizliliği
D) Sağlık

6. Birbirinin varlığından haberdar olan birden fazla kişinin belli bir amaçla bir araya gelmesi **aşağıdakilerden hangisiyle ifade edilir?**

- A) Tüzel kişi
B) Devlet
C) Sosyal ilişki
D) Kamuoyu

7. Latince "laicus" kökünden gelen ve kelime olarak "ruhani olmayan, dine dayanmayan, dünyevi" **anlamlarına gelen sözcük aşağıdakilerden hangisidir?**

- A) Hukuk
B) Laik
C) Demokrasi
D) Hürriyet

8. **Aşağıdakilerden hangisi demokratik siyasal sistem üzerinde uzlaşılan temel ilkelerden biri değildir?**

- A) İnsanlar doğuştan birtakım haklara sahiptir.
B) Azınlık haklarını göz ardı eder.
C) Bireysel özgürlüğü korur ve geliştirir.
D) Temsil esasına dayanır.

2. OTURUM

9. Kanunda belirtilen gerekleri yerine getiren kişilerin, parti kurmak için müracaat etmeleri gereken bakanlık aşağıdakilerden hangisidir?

- A) Adalet Bakanlığı
- B) Dışişleri Bakanlığı
- C) Millî Eğitim Bakanlığı
- D) İçişleri Bakanlığı

10. Aşağıdakilerden hangisi cumhuriyet öncesi demokratikleşme hareketleri arasında yer almaz?

- A) Sened-i İttifak
- B) Islahat Fermanı
- C) İkinci Meşrutiyet
- D) 1924 Anayasası

11. Mert, yaşadığı sokakta çöplerin çöp kutusuna değil de yerlere atıldığını görmekte ve bu durumdan oldukça rahatsız olmaktadır. Sokakta oynayan çocuklar arasında hasta olanların sayısının artması üzerine Mert, bu durumu yetkililere bildirerek sorunun çözümünü sağlamıştır.

Bu parçada Mert'i rahatsız eden durum aşağıdaki haklardan hangisinin ihlali ile ilgilidir?

- A) Eğitim
- B) Kişi dokunulmazlığı
- C) Sağlık
- D) Seçme-seçilme

(466) TEMEL DİNİ BİLGİLER – 2

1. Aşağıdakilerden hangisi fıkıh kavramının anlamlarından biri değildir?

- A) Teslim olmak
- B) Bir şeyi bilmek
- C) İyi ve tam anlamak
- D) Derinlemesine kavramak

2. Fıkıh ile ilgili aşağıdakilerden hangisi yanlıştır?

- A) Hukuk düzeni niteliğindedir.
- B) Toplumsal ilişkileri düzenler.
- C) İnanç esaslarını belirleyip inceler.
- D) Kendine özgü sistematiği bulunur.

3. "Çeşitli helal kılınmış içecek mevcut iken yasak kılınan içeceklerin sadece alkollü içecekler olması" aşağıdakilerden hangisi ile ilgilidir?

- A) Suçun şahsiliği
- B) Helallerde genişlik
- C) Tekliflerde kolaylık
- D) Kamu yararının gözetilmesi

4. "Bir işi yerli yerine koyma, hak sahibine hakkını verme, hak ve hukuka uygunluk" gibi anlamlara gelen kavram aşağıdakilerden hangisidir?

- A) Takva
- B) İrade
- C) Adalet
- D) İnfak

5. İcma ile ilgili aşağıdakilerden hangisi yanlıştır?

- A) İslam hukukunun kaynaklarından-
dır.
- B) Hz. Muhammed (sav) zamanında ortaya çıkmıştır.
- C) Dinî bir konunun hükmü hakkında görüş birliği içinde olmaktır.
- D) Kur'an-ı Kerim'de icma için delil kabul edilen ayet bulunmaktadır.

6. "Bir arada yaşamak durumunda olan insanların ahlaki değerler doğrultusunda yaşamalarını tesis etmek üzere devletçe konulmuş farklı kurallar bütünü" aşağıdaki kavramlardan hangisi ile ifade edilmektedir?

- A) Hukuk
- B) Hikmet
- C) Fazilet
- D) Gelenek

7. Her insanın ahlakı vardır. Ahlak, iyi veya kötü huy ve karakterin tamamını içerir. Başka bir ifadeyle; insanın fazilet ve kötü özellikleri ahlakın kapsamında bulunmaktadır.

Bu metinde altı çizili kavram ile aşağıdakilerden hangisine işaret edilmektedir?

- A) Havf
- B) Nefis
- C) Erdem
- D) Marifet

8. Aşağıdaki ayetlerden hangisinin Kur'an-ı Kerim'den sonra ahlaki otoritenin Hz. Muhammed (sav) olduğuna işaret ettiği söylenebilir?

- A) "Doğrusu Ey Peygamber! Biz seni hak ile desteklenmiş bir müjdeci ve uyarıcı olarak gönderdik. Sen cehennemliklerden sorumlu değilsin."

(Bakara suresi, 119. ayet)

- B) "Ancak tövbe edip inanarak erdemli yapmanın durumu başkadır. Allah böylelerinin kötü hallerini iyiye çevirecektir..."

(Furkân suresi, 70. ayet)

- C) "...Allah'ın rahmetinden ümit kesmeyin. Allah dilerse bütün günahları bağışlar; doğrusu O çok bağışlayıcı, çok merhametlidir."

(Zümer suresi, 53. ayet)

- D) "...Peygamber size ne vermişse onu alın ve size neyi yasaklamışsa ondan kaçının. Allah'a karşı saygısızlık etmekten sakının..."

(Haşr suresi, 7. ayet)

2. OTURUM

9. Aşağıdaki ayetlerin hangisi "iman, ibadet ve ahlak" ilişkisine işaret etmektedir?

- A) "Ey Muhammed! Kitaptan sana vahyolunanı oku, namazı da dos-doğru kıl. Çünkü namaz, insanı hayâsızlıktan ve kötülükten alıko-yar. Allah'ı anmak elbette en büyük ibadettir. Allah yaptıklarınızı bilir."
(Ankebût suresi, 45. ayet)
- B) "Bir kötülüğün karşılığı onun gibi bir kötülüktür. Ama kim affeder ve arayı düzeltirse, onun mükâfatı Allah'a aittir..."
(Şûrâ suresi, 40. ayet)
- C) "İnanıp salih ameller işleyenlere gelince, Rabb'leri onları rahmetine sokacaktır. İşte bu apaçık başarıdır."
(Câsiye suresi, 30. ayet)
- D) "İman edenler ancak Allah'a ve peygamberine inanan sonra şüp-heye düşmeyen, Allah yolunda mallarıyla cihat edenlerdir..."
(Hucurât suresi, 15. ayet)

10. • İşlenen günahlardan pişman olup Allah'tan af dilemek ve tekrar o günahı işlememeye gayret etmektir.
• Dinin emir ve tavsiyelerine uyma, haram ve günahlardan kaçınma hususunda gösterilen titizliktir.
• Allah'a gönülden bağlanarak hükümlerine rıza ile baş eğmektir.

Bu cümlelerde aşağıdaki kavram-lardan hangisinin açıklamasına yer verilmemiştir?

- A) Teslimiyet
B) Tevazu
C) Takva
D) Tevbe

11. "Kur'an'ı kesinlikle biz indirdik elbette onu yine biz koruyacağız."
(Hicr suresi, 9. ayet)

Bu ayette Kur'an-ı Kerim ile ilgili aşağıdakilerden hangisine doğru-dan ulaşılabılır?

- A) Son kutsal kitap olduğuna
B) Hz. Muhammed (sav) döneminde yazıldığına
C) Vahyin değişmeden günümüze kadar ulaştığına
D) Allah tarafından Hz. Muhammed'e (sav) bildirildiğine

(467) SEÇMELİ MATEMATİK- 3

1. $\frac{4^2 + 4^2 + 4^2 + 4^2}{4^2 \cdot 4^2}$ işleminin sonucu kaçtır?

- A) $\frac{1}{4}$ B) $\frac{1}{2}$ C) 2 D) 4

2. $f(x) = \log_{(x-1)}(5-x)$ fonksiyonu-nun en geniş tanım kümesindeki tam sayıların toplamı kaçtır?

- A) 14 B) 10 C) 9 D) 7

3. $\ln e^4 + \log 1000 - \log \frac{1}{100} + \ln \frac{1}{e^3}$ işleminin sonucu kaçtır?

- A) 2 B) 4 C) 6 D) 8

4. $\log_3(1 + \log_3 x) = 2$ olduğuna göre, x kaçtır?

- A) 3^5 B) 3^6 C) 3^7 D) 3^8

5. Bir (a_n) dizisinde $\forall n \in \mathbb{Z}^+$ için

$a_{n+1} = a_n + 1$ olduğuna göre,

$\frac{a_3 + a_1}{a_4 - 2}$ işleminin sonucu kaçtır?

- A) $\frac{1}{2}$ B) 1 C) 2 D) $\frac{3}{2}$

6. Bir (a_n) aritmetik dizisinin ortak farkı d olmak üzere, $a_3 = 21$ ve $a_1 + 8d = 45$ eşitliği veriliyor.

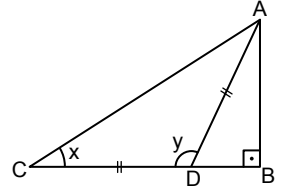
Buna göre, a_5 kaçtır?

- A) 25 B) 27 C) 29 D) 33

7. $\sqrt{3} \cdot \cos 15^\circ - \sin 15^\circ$ işleminin sonucu kaçtır?

- A) $\sqrt{3}$ B) $\sqrt{2}$
C) $\frac{\sqrt{3}}{2}$ D) $\frac{\sqrt{2}}{2}$

8.



Şekildeki ABC üçgeninde $[AB] \perp [BC]$, $|AD| = |DC|$ ve $m(\widehat{ACD}) = x$, $m(\widehat{ADC}) = y$, $\sin 2x = \frac{12}{13}$ olduğuna göre, $\tan y$ kaçtır?

- A) $-\frac{5}{12}$ B) $-\frac{12}{13}$
C) $-\frac{13}{12}$ D) $-\frac{12}{5}$

9. $\cos^2 x - \sin^2 x = \sin x$ denkleminin $[0, \pi]$ aralığındaki çözüm kümesi aşağıdakilerden hangisidir?

- A) $\left\{\frac{\pi}{6}, \frac{5\pi}{6}\right\}$ B) $\left\{\frac{\pi}{3}, \frac{\pi}{2}\right\}$
C) $\left\{\frac{\pi}{3}, \frac{5\pi}{6}\right\}$ D) $\left\{\frac{\pi}{6}, \frac{\pi}{3}\right\}$

2. OTURUM

10. $\tan 3x = 1$ denkleminin çözüm kümesi aşağıdakilerden hangisidir?

- A) $\zeta = \left\{ x \mid x = \frac{\pi}{4} + k \cdot \pi, k \in \mathbb{Z} \right\}$
 B) $\zeta = \left\{ x \mid x = \frac{\pi}{12} + k \cdot \frac{\pi}{3}, k \in \mathbb{Z} \right\}$
 C) $\zeta = \left\{ x \mid x = \frac{\pi}{4} + k \cdot \frac{\pi}{3}, k \in \mathbb{Z} \right\}$
 D) $\zeta = \left\{ x \mid x = \frac{\pi}{12} + k \cdot \pi, k \in \mathbb{Z} \right\}$

11. Analitik düzlemde $A(-2, 1)$ noktasının $x = 3$ doğrusuna göre simetriği olan nokta, $x + (b - 2)y - 4 = 0$ doğrusu üzerinde olduğuna göre, b kaçtır?

- A) -2 B) $-\frac{8}{5}$ C) $\frac{13}{5}$ D) 5

(501) İNGİLİZCE - 7

1-9. sorularda boş bırakılan yere/yerlere uygun gelen kelime ya da ifadeyi işaretleyiniz.

1. **Mindy** : I like listening to country music when I feel stressed. It is very relaxing.
Jeremy : - - - - . According to me, classical music is much more relaxing.
 A) That's so true
 B) I'm afraid I disagree
 C) That's exactly how I feel
 D) I totally agree with you

2. **Amanda** : - - - - ?
Damian : He gives much importance to the rules and he's very knowledgeable.
 A) What's your new coach like
 B) What does your new coach look like
 C) What are your new coach's facial features
 D) What's your new coach interested in

3. **Everybody wants to be friends with Alice because she - - - - .**

- A) is severe and unreliable
 B) lacks generosity
 C) always shares what she has
 D) gets angry easily

4. **Harris** : Why don't we go to the leisure centre?
Betty : Sure, why not? I - - - - .

- A) need to stay at home
 B) have an appointment
 C) prefer being alone
 D) have enough time for it

5. **I guess there - - - - cars running with petrol in the future, so air pollution is going to decrease.**

- A) haven't been
 B) hadn't been
 C) won't be
 D) weren't

6. **The Internet is an amazing tool for communication. However, it - - - - .**

- A) allows users to connect instantly over great distances
 B) provides new opportunities in every field like education
 C) helps people to make researches about their interests
 D) includes the risk of facing cybercrimes

7. **My friends helped me to carry my boxes and brought me food while I was moving into my new house. I felt very - - - - to them.**

- A) furious
 B) grateful
 C) lonely
 D) disappointed

8. **Elaine** : I feel very exhausted these days.

Jannet : Why don't you - - - - ?

Elaine : I have a lot of work to do. It's impossible for me to take even a day off for the next two months.

- A) plan your duties
 B) spare time for yourself
 C) concentrate on your work
 D) go to work on time

9. **I make healthy choices about my diet. I would rather - - - - salad than fast food.**

- A) have B) having
 C) to have D) had

10. Every child has a right to have education and to be looked after. However, millions of children aged 5 -14 are engaged in child labour. These children have to work because their families are very poor and depend on the money the child earns. They work long and hard hours for very little pay, so every country should take precautions to stop child labour.

Bu metinde aşağıdaki sorulardan hangisinin cevabı yoktur?

- A) What is the reason of child labour?
 B) What are the rights of children?
 C) What are the working conditions of these children?
 D) What are the precautions to stop child labour?

11. Todd'un bazı müzik türleri hakkındaki fikirleri tabloda verilmiştir.

Music Type	Todd's Opinion
Rock	Unbearable
Metal	Annoying
Reggae	Relaxing
Hip hop	Boring

Bu tabloya göre, Todd aşağıdaki müzik türlerinin hangisinden hoşlanmaktadır?

- A) Rock B) Metal
 C) Reggae D) Hip hop

2. OTURUM

(501) ALMANCA – 7

1-6. sorularda boş bırakılan yere/yerlere uygun gelen kelime ya da ifadeyi işaretleyiniz.

1. Das Frühstück kannst du durch - - - - ersetzen, weil es die wichtigste Mahlzeit ist.

- A) ohne B) nichts
C) jemand D) niemand

2. Ich muss die Einladung leider - - - -, weil ich einen Termin beim Arzt habe.

- A) einladen B) angenommen
C) ablehnen D) kennenlernen

3. Defne möchte eine Linsensuppe als - - - - bestellen. Danach möchte sie als Hauptgericht Fisch mit Salat essen.

- A) Nachspeise B) Vorspeise
C) Frühstück D) Getränk

4. Du kannst - - - - der Haltestelle auf den Bus warten.

- A) im B) am
C) ins D) an

5. Der Zug nach Köln - - - - von Gleis 7 abfahren.

- A) wird B) ist
C) hat D) sollen

6. Am Sonntag wollten wir mit der ganzen Familie bei gutem Wetter einen Ausflug im Wald machen. Weil - - - -, sind wir zu Hause geblieben.

- A) das Wetter schön war
B) wir alle pünktlich waren
C) es stark geregnet hat
D) wir laufen wollten

7. Welches ist kein Adjektiv?

- A) glücklich B) fröhlich
C) lustig D) spülen

8. Auf der Autobahn ist heute morgen ein Unfall passiert.

Welche Frage hat keine Antwort?

- A) Warum ist es passiert?
B) Was ist passiert?
C) Wo ist es passiert?
D) Wann ist es passiert?

9. Herr Zweig und Herr Şentürk haben im Restaurant gegessen. Sie möchten die Nachspeisen bestellen.

Welches ist keine Nachspeise?

- A) Spinat B) Apfelkuchen
C) Pudding D) Kirchtorte

10. Der Dieb hat Ayşes Geld gestohlen.

Was können wir ihr empfehlen?

- A) Geh zum Reisebüro!
B) Geh zur Apotheke!
C) Geh zur Polizei!
D) Geh zum Supermarkt!

11. Welches ist keine Freizeitaktivität?

- A) Einen Ausflug machen.
B) Ins Krankenhaus gehen.
C) Mit dem Fallschirm springen.
D) Angeln gehen.

(501) FRANSIZCA – 7

1-10. sorularda boş bırakılan yere/yerlere uygun gelen kelime ya da ifadeyi işaretleyiniz.

1. Elle est triste, elle écrit son message - - - -.

- A) en s'amusant
B) en riant
C) en pleurant
D) en laissant

2. Le médecin dit à Nadia qu'elle pourrait se débarrasser de ses kilos en trop - - - - un bon régime alimentaire.

- A) en faisant
B) faisant
C) faire
D) fait

3. Octave Mouret ouvre « Au Bonheur des Dames », un grand magasin - - - - femme. Denis y travaille comme vendeuse - - - - trouver les moyens de gagner sa vie.

- A) devant / pour
B) avant / après
C) depuis / chaque
D) pour / afin de

4. La vie, c'est comme des rêves - - - - un écrivain parle dans son roman.

- A) duquel
B) desquels
C) de laquelle
D) des quelles

2. OTURUM

5. **Vendeur** : Ça fait 55 euros, madame. Vous voudriez autre chose ?

Cliente : - - - -

- A) Désolée, je ne suis pas d'ici.
- B) Vous avez ma taille en 38 ou 39, s'il vous plaît ?
- C) Non, merci, je peux payer par carte bancaire ?
- D) Malheureusement, non ! Je suis très occupée.

6. **J'avais du mal à m'exprimer parce que - - - gens me critiquait.**

- A) beaucoup
- B) très
- C) trop
- D) beaucoup de

7.

Activités	Sport	Cinéma	Lecture	Internet
souvent				✓
quelque fois	✓			
jamais		✓		
une fois par an			✓	

Selon le tableau, Adrian - - - .

- A) va au cinéma souvent
- B) surfer souvent sur internet
- C) ne lis jamais.
- D) fais du sport une fois par an

8. - - - - l'accident qui a eu lieu au cinquième arrondissement, je suis arrivé en retard chez moi.

- A) A cause de
- B) Avant
- C) Donc
- D) Parce que

9. **Mila** : Tu travailles - - - - quand ?

Zoé : Je n'en ai pas conscient !

- A) depuis
- B) pour
- C) pendant
- D) car

10. **Vendeuse** : J'ai deux modèles noirs. Vous préférez - - - - ?

Cliente : Ce modèle n'est pas mal, mais je préfère cette jupe !

Vendeuse : - - - - ?

Cliente : Celle qui est sur le mannequin.

- A) laquelle / lequel
- B) lequel / lequel
- C) laquelle / laquelle
- D) lequel / laquelle

11. Dans la famille chacun a son caractère. Mon père garde toujours son sang-froid. Il est calme. Ma mère est toujours comprend vite. Mon frère ne travaille pas assez. Ma sœur a peur des fourmis. Moi j'aime beaucoup sourire.

Bu metne göre, aşağıdakilerden hangisi doğrudur?

- A) Ma sœur est peureuse.
- B) Ma mère est patiente.
- C) Je ne suis pas souriante.
- D) Mon frère est sympa.

(512) FIKIH – 2

1. **Ezan ile ilgili aşağıdakilerden hangisi yanlıştır?**

- A) Hicretin birinci yılında uygulanmaya başlanmıştır.
- B) İlk olarak Hz. Bilal tarafından okunmuştur.
- C) Sünnet namazlarından önce okunması farzdır.
- D) Namaz vakitlerinin girdiğini ilan etmek için okunur.

2. **Aşağıdakilerden hangisi İslam dininin seferî olan kişiye tanıdığı kolaylıklar ile ilgili doğru bir bilgi değildir?**

- A) Ayağındaki mestlere üç gün boyunca mesh edebilmesi
- B) Dört rekât olan farz namazları iki rekât olarak kılması
- C) Cuma namazına imkân bulamadığında öğle namazı kılabilmesi
- D) Üç rekât olan akşam namazının farzını iki rekât olarak kılması

3. **Namazın farzlarının geciktirilmesi, vaciplerinin ise geciktirilmesi veya terk edilmesi durumunda aşağıdakilerden hangisinin yapılması gerekmektedir?**

- A) Tilavet secdesi
- B) Sehih secdesi
- C) Şükür secdesi
- D) Namazın tekrarı

4. **Asli ihtiyaçlar dışında kalan nakit paranın nisap miktarı aşağıdakilerden hangisine göre belirlenir?**

- A) Altın
- B) Gümüş
- C) Koyun
- D) Buğday

2. OTURUM

(531) SEÇMELİ PEYGAMBERİMİZİN HAY. – 1

5. Aşağıdaki hadislerden hangisi oruç tutan kişinin ahlakını da güzelleştirmesi gerektiğini ifade etmektedir?

- A) Ramazan ayı gelince cennet kapıları açılır, cehennem kapıları kapanır.
- B) Kim ramazan ayının faziletine inanarak ve mükâfatını Allah'tan umarak oruç tutarsa geçmiş günahları bağışlanır.
- C) Oruç tutun ki sıhhat bulasınız.
- D) Kim yalanı ve onunla ameli terk etmezse bilsin ki onun yiyip içmeyi bırakmasına Allah'ın ihtiyacı yoktur.

6. Aşağıdakilerden hangisi teşrik tekbirinin içerdiği anlamlardan biri değildir?

- A) Allah en büyüktür.
- B) Allah'tan başka ilah yoktur.
- C) Hamd Allah'a mahsustur.
- D) Allah âlemlerin yaratıcısıdır.

7. Talak ile ilgili aşağıdakilerden hangisi doğrudur?

- A) İslam dininin teşvik ettiği bir uygulamadır.
- B) Hoş karşılanmadığı hâlde zorunluluk durumunda meşru kılınmıştır.
- C) Geçerli olabilmesi için evlilik öncesinde karar alınmış olması gerekir.
- D) Sonucunda mirasla ilgili hukuki hükümler uygulanır.

8. Aşağıdakilerden hangisi mirasa engel olan durumlardan biridir?

- A) Murisin vefat etmiş olması
- B) Muris vefat ettiğinde varisin hayatta olması
- C) Muris ile varisin kan bağıının kanılanamamış olması
- D) Varisin mirasa evlilik sebebiyle hak kazanması

9. Aşağıdakilerden hangisi İslam dininin teşvik ettiği tutum ve davranışlardan biri değildir?

- A) Mülk sahibi kişinin mülkü üzerindeki tasarruflarına müdahale etmek
- B) Sahip olunan malın emanet olduğu bilincinde olmak
- C) Hem bu dünya hem de ahiret için çalışmak
- D) Allah'ın rızasını kazanmak için infak etmek

10. İslam hukukunda karşılığı mali ödeme şeklinde gerçekleşen ceza aşağıdakilerden hangisidir?

- A) Had
- B) Kıyas
- C) Diyet
- D) Tazir

11. Aşağıdakilerden hangisi fıkhıta bir şeyin mal olarak kabul edilebilmesinin şartlarından değildir?

- A) Elde edilebilir ve biriktirilebilir olması
- B) Kendisinden yararlanılmasının mümkün olması
- C) İslam dini tarafından haram kılınmamış olması
- D) Kişinin bir yıllık ihtiyacından daha fazla olması

1. İslam orduları Kadisiye ve Nihâvend savaşları ile aşağıdakilerin hangisinin varlığına son vermiştir?

- A) Emeviler
- B) Gassaniler
- C) Abbasiler
- D) Sâsâniler

2. Aşağıdakilerden hangisi "asabiyet" kavramı ile ilişkilendirilebilir?

- A) Her koyun kendi bacağından asılır.
- B) Hepimiz birimiz, birimiz hepimiz içindir.
- C) Ne ekersen onu biçersin.
- D) Kendi düşen ağlamaz.

3. Hz. Muhammed'in (sav) hayatını öğrenmenin önemine aşağıdaki ayetlerin hangisinden ulaşılabilir?

- A) "Andolsun, Allah'ın Resulünde sizin için; Allah'a ve ahiret gününe kavuşmayı uman, Allah'ı çok zikreden kimseler için güzel bir örnek vardır."

(Ahzâb suresi, 21. ayet)

- B) "Ey Muhammed! Şüphesiz biz seni bir şahit, bir müjdeci ve bir uyarıcı olarak gönderdik."

(Fetih suresi, 8. ayet)

- C) "De ki: 'Ben de ancak sizin gibi bir insanım. Fakat bana ilahınızın yalnızca tek bir ilah olduğu vahyediliyor...'"

(Fussilet suresi, 6. ayet)

- D) "Ey Muhammed! Biz sana Kitab'ı hak olarak indirdik ki, insanlar arasında Allah'ın sana öğrettikleri ile hüküm veresin..."

(Nisâ suresi, 105. ayet)

2. OTURUM

4. "Rabbimiz! Ben çocuklarımdan bazı-
sını, senin kutsal evinin yanında ekin
bitmez bir vadiye yerleştirdim.
Rabbimiz! Namazı dosdoğru kılmala-
rı için böyle yaptım..."

(İbrâhim suresi, 37. ayet)

**Bu ayette bahsedilen şehir aşağı-
dakilerden hangisidir?**

- A) Hayber B) Taif
C) Mekke D) Medine

5. Hz. Muhammed'in (sav) annesi
Kureyş kabilesinin - - - - koluna men-
sup olan - - - - kızı Âmine'dir.

**Bu cümlede boş bırakılan yerlere
sırasıyla aşağıdakilerden hangisi
getirilmelidir?**

- A) Haşimoğulları – Kilab
B) Zühreoğulları – Vehb
C) Teymoğulları – Lüey
D) Abdulmenafogulları – Haşim

6. **Aşağıdakilerden hangisi Hz.
Muhammed'in (sav) sütanneye
verilme nedenlerinden biridir?**

- A) Kureyş kabilesine mensup olması
B) Medine'de akrabalarının bulunması
C) Doğumundan önce babasını kay-
betmesi
D) Mekke'nin havasının çocuklar için
elverişsiz olması

7. • Mekke içinden ya da dışından
haksızlığa uğramış hiç kimse bira-
kılmayacaktır.
• Mekke'de zulme asla fırsat veril-
meyecek ve zalime müsamaha
gösterilmeyecektir.
• Hakını alıncaya kadar haksızlığa
uğrayanla beraber hareket edile-
cektir.

**Bu cümlelerin tamamı aşağıdaki-
lerden hangisi ile ilgilidir?**

- A) Akabe Biati
B) Veda Hutbesi
C) Hılful-Fudûl
D) Medine Sözleşmesi

8. Hz. Muhammed (sav) on yedi yaşın-
da iken amcaları - - - - ve - - - - ile
ticaret amacıyla Yemen'e yolculuk
yapmıştır.

**Bu cümlede boş bırakılan yerlere
sırasıyla aşağıdakilerden hangisi
getirilmelidir?**

- A) Zübeyr – Abbas
B) Ebu Talib – Dırar
C) Zübeyr – Haris
D) Kusem – Ebu Talib

9. **Aşağıdakilerden hangisi
Hz. Muhammed'in (sav) Hz. Hatice
ile evliliğinden olan çocuklarından
biri değildir?**

- A) Abdullah B) Rukiye
C) Kasım D) İbrahim

10. I. Peygamberlerin asla yalan söyle-
memeleri ve doğru davranmaları-
dır.
II. Günah işlemek ve günahın
korunmuş olmasıdır.
III. Peygamberlerin akıllı, zeki ve
uyanık olmalarıdır.
IV. Peygamberlerin Allah'tan aldıkları
emirleri ve yasakları insanlara
iletmeleridir.

**Numaralanmış cümlelerin hangile-
rinde "sıdk ve fetanet" kavramları-
nın tanımları verilmiştir?**

- A) I ve II B) I ve III
C) II ve IV D) III ve IV

11. I. Bir ormanda kırk gün kadar her
şeyden uzaklaşarak ibadetle meş-
gul olmuştur.
II. Toplumun kötülüklerinden rahatsız
olduğu için Nur Dağı'ndaki Hira
Mağarası'nda tefekkür etmiştir.
III. Peygamberlik vazifesinden önce
Tur Dağı'nda kalarak oruç tutmuş-
tur.
IV. Ramazan aylarında Sevr
Mağarası'nda tefekkür etmiştir.

**Numaralanmış bilgilerden hangisi
Hz. Muhammed (sav) ile ilgili doğ-
ru bir bilgidir?**

- A) I B) II C) III D) IV

(536) SEÇMELİ PEYGAMBERİMİZİN HAY. – 6

1. "Daha önce Medine'yi yurt edinmiş
ve gönüllerine imanı yerleştirmiş olan
kimseler, kendilerine göç edip gelen-
leri severler ve onlara verilenlerden
dolayı içlerinde bir rahatsızlık hisset-
mezler. Kendileri zaruret içinde bu-
lunsalar bile onları kendilerine tercih
ederler. Kim nefsinin cimriliğinden
korunursa, işte onlar kurtuluşa eren-
lerdir."

(Haşr suresi, 9. ayet)

**Bu ayet aşağıdakilerden hangisi
ile ilgilidir?**

- A) Rıdvan Biati
B) Medine Vesikası
C) Muâhât Uygulaması
D) Hudeybiye Antlaşması

2. **Aşağıdakilerden hangisi İslamiyet
öncesi dönemde Medine'de
bulunan Yahudi kabilelerinden biri
değildir?**

- A) Hazrec B) Kaynuka
C) Kurayza D) Nadir

3. Cahiliye Dönemi'nde Arapların dini
anlayışları, şirk üzerine kurulmuştu.
Siyasi ve sosyal hayat ise güçlülerin
zayıfları ezdiği kabile asabiyetine da-
yalıydı. Bu sebeple Hz. Muhammed
(sav) peygamber olarak görevlendiril-
diğinde yaptığı ilk işlerden biri Allah'ın
varlığı ve birliğini, insanların zihinleri-
ne ve gönüllerine yerleştirmek olmuş-
tur.

**Bu metin Hz. Muhammed'in (sav)
yönetim ilkelerinden hangisi ile
ilgilidir?**

- A) İlim B) Adalet
C) İstişare D) Tevhit

2. OTURUM

4. Hz. Muhammed (sav) vefatından kısa bir süre önce Üsame bin Zeyd komutasında bir ordu hazırlattı. Ancak Üsame'nin genç yaşta ve bir kölenin oğlu olması nedeniyle bazı tepkiler vardı. Bu eleştiriler üzerine Hz. Muhammed (sav) hastalığına rağmen mescide gitti. Üsame'nin babası Zeyd bin Harise'yi Mute Savaşı için komutan tayin ettiği günleri hatırlatarak, "Daha önce onun babasını kumandan tayin etmeme de karşı çıkmıştınız. Babası kumandanlığa nasıl layık olduysa oğlu da layıktır." buyurarak görevleri, o görevi hak eden kişilere verdiğini vurgulamıştır.

Bu metin Hz. Muhammed'in (sav) yönetim ilkelerinden hangisi ile ilgilidir?

- A) Tevhid B) İstişare
C) Liyakat D) İlim

5. "İki kişi veya grup arasındaki anlaşmazlığın, davanın veya savaşın sona ermesi için yapılan anlaşma ve barış" anlamına gelen kavram aşağıdakilerden hangisidir?

- A) Biat B) Sulh
C) Adalet D) Fazilet

6. Medine'ye hicret eden ilk sahabe aşağıdakilerden hangisidir?

- A) Musab bin Umeyr
B) Cafer bin Ebi Talib
C) Malik bin Huveyris
D) Osman bin Afvan

7. "Hep birlikte Allah'ın ipine sınımsız sarılın. Parçalanıp bölünmeyin. Allah'ın size olan nimetini hatırlayın..."

(Âl-i İmrân suresi, 103. ayet)

Aşağıdakilerden hangisi bu ayette tavsiye edilen tutum ve davranışlardan biri değildir?

- A) Uhuvvet ortamı oluşturmak
B) Dayanışma içerisinde olmak
C) Merhametli olmak
D) Ortak bilinç oluşturmak

8. Temim kabilesini temsilen Medine'ye gelen heyette Amr adında bir çocuk bulunuyordu. Amr, kendisine verilen bekçilik görevi için eşyaların başında kalmıştı. Hz. Muhammed'in (sav) heyetkellere verdiği hediyelerden kendisinin de nasibi olduğunu ancak Hz. Muhammed'in (sav) yanına gittiğinde öğrenmişti. Nitekim heyetkellere hiçbirinin mahrum kalmasını istemeyen Hz. Muhammed (sav) küçük Amr'a da hediyesinin verilmesini istemiştir.

Bu metne göre Hz. Muhammed (sav) ile ilgili aşağıdakilerden hangisi söylenemez?

- A) Hak sahiplerine hakkını teslim etmiştir.
B) Küçük çocukların kişiliklerine saygı göstermiştir.
C) Adaleti ile Müslümanlara örnek olmuştur.
D) İstişareye önem vermiştir.

9. Habeşistan'a hicret eden kafilenin içinde yer alan - - - -, muhacirlerin sözcülüğünü ve liderliğini üstlenmiştir. Habeş Necaşi'si Ashame'yi yaptığı meşhur konuşmasıyla etkileyerek hicret eden Müslümanların Habeşistan'da himaye edilmesini sağlamıştır.

Bu metinde boş bırakılan yere aşağıdakilerden hangisi getirilmelidir?

- A) Osman bin Afvan
B) Cafer bin Ebi Talib
C) Musab bin Umeyr
D) Enes bin Malik

10. Hz. Muhammed'in (sav) "Ziynetlerinizden bile olsa sadaka verin." demesi üzerine evinin geçimini sağlayan bir hanım sahabe bu emri nasıl yerine getireceğinin telaşına düşerek geçimini sağladığı evi için yaptığı harcamaların sadaka yerine geçip geçmeyeceğini Hz. Muhammed'e (sav) sormuştur. Bunun üzerine Hz. Muhammed'den (sav), yaptığı davranışlardan ötürü hem sadaka hem sıla-i rahim sevabı kazandığı cevabını almıştır.

Bu metinde hakkında bilgi verilen sahabe aşağıdakilerden hangisidir?

- A) Zeynep es-Sakafiyye
B) Esmâ binti Umeys
C) Ümmü Süleym
D) Ümmü'l-Ala

11. "...İş konusunda onlarla müşavere et. Bir kere de karar verip azmettin mi, artık Allah'a tevekkül et. Şüphesiz Allah tevekkül edenleri sever."
(Âl-i İmrân suresi, 159. ayet)

Bu ayet Hz. Muhammed'in (sav) yönetim ilkelerinden hangisi ile ilgilidir?

- A) İstişare B) Liyakat
C) Adalet D) İlim

2. OTURUM

(538) SEÇMELİ PEYGAMBERİMİZİN HAY. – 8

1. İslamiyet bildirilmeden önce Arap toplumunda aynı soydan gelen ve aynı kabileye mensup olanların birbirlerine körü körüne bağlı olarak hareket ettikleri dayanışma ruhu vazgeçilmez bir unsur hâline gelmişti. Bu dönemde ortaya çıkan İslamiyet ise soy üstünlüğü ve akrabacılığı reddedererek müminlerin kardeş olduğu örnek bir toplum inşa etmeyi amaçlamıştır.

Bu metin aşağıdaki kavramlardan hangisi ile ilişkilendirilemez?

- A) Şirk B) Asabiyet
C) Taassuup D) Cahiliye

2. İslamiyet'in ilk dönemlerinde nazil olan - - - ile Allah'ın tek olduğu, hiçbir şeye ihtiyacı bulunmadığı, yaratılmış tüm varlıkların Allah'a muhtaç olduğu, Allah'a çocuk atfedilemeyeceği, hiçbir varlığın Allah'a benzetilemeyeceği ve O'na denk ve benzer görülmemeyeceği açıkça vurgulanmıştır.

Bu metinde boş bırakılan yere aşağıdakilerden hangisi getirilmelidir?

- A) Kevser suresi
B) İhlâs suresi
C) Nasr suresi
D) Fâtiha suresi

3. Cahiliye Dönemi'nde kadınların durumu ile ilgili aşağıdaki bilgilerden hangisi yanlıştır?

- A) Çocuk doğurmadan vefat edenlerin kocasına başsağlığı dilenmezdi.
B) Hür ve köle olarak iki gruba ayrılmışlardı.
C) Tamamı mirastan mahrum bırakılmıştı.
D) Erkek, karısını istediği zaman boşayabilirdi.

4. Aşağıdaki ayetlerin hangisi Müslümanların ailelerine karşı sorumluluğu ile ilgili değildir?

A) "Ey iman edenler! Kendiniz, ana-babanız ve en yakınlarınızın aleyhine de olsa, Allah için şahitlik yaparak adaleti titizlikle ayakta tutan kimseler olun. Zengin veya fakirde olsalar. Çünkü Allah ikisine de daha yakındır..."
(Nisâ suresi, 135. ayet)

B) "Biz, insana ana-babasına iyilik etmesini emrettik. Şayet onlar seni hakkında hiçbir bilgin olmayan şeyi bana ortak koşmak için zorlarsa bu takdirde onlara itaat etme..."
(Ankebût suresi, 8. ayet)

C) "Ey iman edenler! Kendinizi ve ailenizi, yakıtı insanlar ve taşlar olan ateşten koruyun. O ateşin başında gayet katı, çetin, Allah'ın kendilerine verdiği emirlere karşı gelmeyen ve kendilerine emredilen şeyi yapan melekler vardır."
(Tahrîm suresi, 6. ayet)

D) "Rabb'in kendisinden başkasına asla ibadet etmemenizi, anaya-babaya iyi davranmanızı kesin olarak emretti. Eğer onlardan biri, ya da her ikisi senin yanında ihtiyarlık çağına ulaşırsa, sakın onlara 'öf!' bile deme; onları azarlama, onlara tatlı ve güzel söz söyle."
(İsrâ suresi, 23. ayet)

5. Hz. Muhammed'in (sav) Hudeybiye Antlaşması'ndan sonra yaşadığı bir sıkıntıyı eşi Ümmü Seleme'nin fikirlerini alarak gidermiştir.

Bu durum Hz. Muhammed'in (sav) aşağıdakilerden hangisine verdiği önemi göstermektedir?

- A) Adaletli davranmaya
B) Tevazu göstermeye
C) Güvenilir olmaya
D) İstişare yapmaya

6. I. Şifa binti Abdullah
II. Zeynep binti Mauni
III. Semra binti Nuheyk
IV. Havle binti Salebe

Numaralanmış isimlerden hangileri Hz. Muhammed (sav) tarafından pazar yerlerini denetlemesi için görevlendirilen kadın sahabelerdendir?

- A) I ve II B) I ve III
C) II ve IV D) III ve IV

7. Hz. Muhammed (sav), Musab bin Umeyr'i Medine halkına İslam dinini anlatması için hangi olaydan sonra görevlendirmiştir?

- A) Birinci Akabe Biatı
B) İkinci Akabe Biatı
C) Hudeybiye Antlaşması
D) Medine Vesikası

8. Türk-İslam kültüründe, Hz. Muhammed'in (sav) niteliklerinin hat sanatıyla yazılıp süslenmiş levhalara verilen ad aşağıdakilerden hangisidir?

- A) Miraciye B) Mevlit
C) Hilye D) Naat

9. Süleyman Çelebi tarafından yazılan mevlit türündeki eser, aşağıdakilerden hangisidir?

- A) Siretü'n-Nebeviyye
B) Divan-ı Hikmet
C) Kitâbü'l-Meğazi
D) Vesiletü'n-Necât

10. Hz. Muhammed'in (sav) doğumu için yapılan ilk büyük ve resmî mevlit töreni hangi dönem gerçekleştirilmiştir?

- A) Emeviler
B) Abbasiler
C) Osmanlılar
D) Selçuklular

11. Ebu Eyyüb el-Ensari ile ilgili aşağıdakilerden hangisi yanlıştır?

- A) Mihmandar-ı Nebi ünvanıyla anılmıştır.
B) Hz. Muhammed'in (sav) sancağını taşımıştır.
C) İstanbul kuşatması sonrası Medine'de vefat etmiştir.
D) Evini karargâh olarak açarak İslam devletinin kurulmasında faydalı olmuştur.

2. OTURUM

(541) TÜRK DİLİ VE ED. – 1

1. Ben biliyorum. Sen artık odaların döşeniş tarzını hatta bu evi beğenmiyorsun... Uçmayı öğrenmiş bir serçe yavrusu gibi, gözün başka dallarda. Senin düşündüğün, kim bilir ne cici bir şeydir. Bizi misafir edeceğin odayı da unutmamışsındır, buna eminim. Bu kadarı bize... Bana yeter.

Bu parçanın anlatımı ile ilgili aşağıdakilerden hangisi söylenemez?

- A) Kahraman bakış açısı kullanılmıştır.
B) Öyküleyici anlatımdan yararlanılmıştır.
C) Örneklemeye yer verilmiştir.
D) Öznel bir tutumla yazılmıştır.

2. Dilin imkânlarıyla birtakım estetik uyarılara yol açarak insanı etkileyen, insanda güzel duygu, düşünce ve hayaller uyandıran; yazılı veya sözlü olarak oluşturulan, edebî değer taşıyan metinlerdir.

Aşağıdakilerden hangisi bu cümledeki tanımlamaya uygun bir metin türü değildir?

- A) Makale
B) Hikâye
C) Şiir
D) Karagöz

3. Olay hikâyesi "serim, düğüm ve çözüm" olmak üzere üç bölümden oluşur. Bu teknik, Fransız sanatçı Guy de Maupassant tarafından geliştirildiği için Maupassant tarzı olarak da anılmaktadır.

Aşağıdakilerden hangisi sözü edilen hikâye türünün temsilcilerinden değildir?

- A) Ömer Seyfettin
B) Refik Halit Karay
C) Sabahattin Ali
D) Sait Faik Abasıyanık

4. Gökyay'ım ne yazsan ziyade değil
Bu sevgi bir kuru ifade değil
Sencileyin hasmı rüyada değil
Topun namlusundan görenlerindir.

Bu dizeler ile ilgili aşağıdakilerden hangisi söylenemez?

- A) Serbest ölçüyle yazılmıştır.
B) Redife yer verilmiştir.
C) Teması kahramanlıktır.
D) Uyak düzeni "aaab"dir.

5. Dünyada masal türündeki ilk eser, - - - - edebiyatında görülür. - - - -, bu türün Doğu edebiyatındaki güzel örneklerindedir. Avrupa'da ise masalcılığın yazılı anlatımdaki temellerini Fransız sanatçı - - - - atmıştır.

Bu parçada boş bırakılan yerlere getirilmesi gerekenler sırasıyla aşağıdakilerin hangisinde verilmiştir?

- A) Arap - Keloğlan - Montaigne
B) Hint - Binbir Gece Masalları - La Fontaine
C) Türk - Karga ile Tilki - Beydeba
D) Çin - Perili Köşk - Ezop

6. • Şairlerin şiirlerinde kullandıkları takma adlardır.
• Şairlerin kullandıkları takma adların halk edebiyatındaki karşılığıdır.
• İki dizeden oluşan, kendi içinde bağımsız bir yapısı ve anlam bütünlüğü bulunan birimdir.

Aşağıdaki kavramlardan hangisi verilen bu tanımların herhangi biriyle eşleştirilemez?

- A) Mahlas
B) Beyit
C) Tapşırma
D) Bent

7. (I) Mantığın kurucusu Aristoteles'tir. (II) Aristoteles'ten öncede mantıksal düşünme konusunda çabalar ve dâğılık bilgileri vardır. (III) Ancak Aristoteles, mantığı sistemli bir bilgi alanı hâline getirmiştir. (IV) Bu anlamda Aristoteles, mantığı bulan değil ama onu sistemli ve düzenli bir biçime dönüştüren ilk kişidir.

Bu parçadaki numaralanmış cümlelerin hangisinde yazım yanlışlığı vardır?

- A) I
B) II
C) III
D) IV

8. Nasıl başladı () ne vakit başladı () bilemiyorum () Ama ilk belirtiler () dokuz yaşında iken patlak verdi.

Bu parçada yay ayrıla gösterilen yerlere sırasıyla aşağıdaki noktalama işaretlerinden hangisi getirilmelidir?

- A) (;) (?) (.) (;)
B) (?) (.) (.) (.)
C) (.) (;) (.) (.)
D) (?) (?) (.) (.)

9. Limon, yemeyi seven bir papağandı. En çok fıstık yemeyi severdi. Özellikle Siirt fıstığına bayılırdı.

Bu parçadaki altı çizili isimlerin türleri sırasıyla aşağıdakilerden hangisinde verilmiştir?

- A) Cins - Özel - Cins
B) Özel - Cins - Özel
C) Cins - Cins - Özel
D) Özel - Özel - Cins

10. Sarı bisikletime atlayıp teyzemi ziyade gittim. Son günlerde hasta olduğunu duyduğum için endişeliydim. Ama teyzemin iyi olduğunu gördüğümde bütün endişelerim birden kayboldu. Sonra teyzemle akşama kadar oturup sohbet ettik.

Bu parçadaki altı çizili sözcüklerden hangisi sıfat görevinde kullanılmamıştır?

- A) I
B) II
C) III
D) IV

11. Ben, bin türlü ses ve uğultu arasında hep Yıldız Dağı'nın mağrur ve du-manlı başını düşünmüştüm.

Bu cümlede aşağıdaki sözcük türlerinden hangisi yoktur?

- A) Sıfat
B) Zamir
C) Edat
D) Zarf

2. OTURUM

(612) DİNLER TARİHİ – 2

1. • Halk arasında yeni bir kurtuluş yolu olarak Bhakti-yoga yayılmıştır.
• Babür İmparatoru Hindistan'daki tüm dinleri birleştirmeye çalışmıştır.
• İslamiyet'in tevhit inancı ve sınıfsız toplum anlayışı Hint toplumunu derinden etkilemiştir.

Bu bilgiler Hinduizm'in gelişim dönemlerinden hangisi ile ilgilidir?

- A) Orta Çağ
B) Modern
C) Vedalar
D) Klasik Hinduizm

2. **Aşağıdakilerden hangisi Budda'nın kendisinin tecrübe ettiği ve insanların kurtuluşu için önerdiği dört yüce hakikatten biri değildir?**

- A) Hayat acı ve ıstıraptır.
B) Acı ve ıstırapın kaynağı istek ve arzulardır.
C) İstek ve arzulardan vazgeçilirse acılar sona erecektir.
D) Kurtuluş, kast sistemine dâhil olmak ile mümkündür.

3. **Budda'nın sözlerinin Pali dilinde yazılmasıyla oluşan kutsal metinler aşağıdakilerden hangisidir?**

- A) Vedalar
B) Tripitaka
C) Adi Grant
D) Tao Te King

4. **Aşağıdakilerden hangisi Sihizm'in "Beş Silah" olarak bilinen ahlaki esaslarından biridir?**

- A) Hırs
B) Kibir
C) Kanaat
D) Tutku

5. "Büyük ve üstün insan, erdemi; küçük insan ise rahatını düşünür. Üstün insan kanunlar üzerinde kafa yorar, küçük insan ise kendi faydasını arar." **sözleri ile insan erdemi üzerine öğütlerde bulunan kişi aşağıdakilerden hangisidir?**

- A) Budda
B) Lao Tzu
C) Zerdüş
D) Konfüçyüs

6. I. Noel, 6 Ocak'ta kutlanır.
II. Kilise'nin en üst ruhani liderine "patrik" denir.
III. Ana merkezi, Erivan yakınındaki Eçmiyazın'dır.

Ermeni Kilisesi ile ilgili numaralanmış bilgiler doğru(D) – yanlış(Y) olarak değerlendirildiğinde sıralama aşağıdakilerden hangisi olur?

- A) Y–D–Y
B) D–D–Y
C) D–Y–Y
D) D–Y–D

7. Süryani Kilisesi; Katolik, Ortodoks ve Protestan kiliselerinin kabul ettiği Hz. İsa'da iki tane tabiatın karışmadan aynı anda bulunduğu iki tabiat öğretisini reddetmektedir.

Bu cümlede altı çizili bölümle ifade edilen kavram aşağıdakilerden hangisidir?

- A) Metafizik
B) Diofizit
C) Teslis
D) Miafizit

8. **İbranice ve Aramicedeki "haham" kavramının anlamı aşağıdakilerden hangisidir?**

- A) Aydınlanmış
B) Soylu ve asil
C) Yüksek rütbeli
D) Bilge ve yetenekli

9. I. Mirza Ali Muhammed tarafından kurulmuştur.
II. Kan almak ve vermek, Tanrı'nın yasalarına aykırı olarak görülür.
III. Sakramentlerden sadece Vaftiz ve Ekmek Şarap ayinini kabul ederler.

Numaralanmış bilgilerden hangileri Yehova Şahitleri ile ilgilidir?

- A) I ve II
B) I ve III
C) II ve III
D) I, II ve III

10. Peygamberlerin bir insani bir de ilahî yönü vardır. İnsani yönleri itibarıyla diğer insanlar gibi yer, içer, hasta olurken ilahî yönleri itibarıyla bir anlamda tanrıdır. Onlarla konuşulduğunda Tanrı'yla konuşulmuş, onlara secde edildiğinde de Tanrı'ya secde edilmiş gibi kabul edilir.

Bu bilgiler aşağıdaki dinî akımlardan hangisi ile ilgilidir?

- A) Bahailik
B) Mecûsîlik
C) Yezidilik
D) Süryanilik

11. **Fasulye, marul, lahana gibi sebzeler ve balık, geyik, horoz eti yemenin haram kabul edildiği dinî grup aşağıdakilerden hangisidir?**

- A) Yezidilik
B) Bahailik
C) Mecusilik
D) Süryanilik

(714) İSLAM KÜLTÜR VE MEDENİYETİ – 2

1. **Allah'ın aşağıdaki isimlerinden hangisi sanat ve estetik ile ilişkilendirilemez?**

- A) el-Fettah
B) el-Bedî
C) el-Lâtif
D) el-Musavvir

2. **Aşağıdakilerden hangisi İslam sanatında üsluplaştırmanın sebeplerinden biridir?**

- A) Gelişime açık olması
B) Sanatın zevk için yapılması
C) Diğer kültürlerden etkilenilmesi
D) Tevhit ilkesine uygun hareket edilmesi

2. OTURUM

3. İslam mimarisinde camiler, tevhit inancının hayata geçirildiği mekânlardır ve isimlendirilirken taşıdıkları nitelikler göz önünde bulundurulmuştur. Örneğin; Osmanlı sultanlarının yaptırdığı camilere - - - -; şehir merkezinde bulunan camilere ise - - - - denilmiştir.

Bu parçada boş bırakılan yerlere sırasıyla aşağıdakilerden hangisi getirilmelidir?

- A) fetih camii – ulu cami
- B) selâtin camii – ulu cami
- C) fetih camii – namazgâh
- D) namazgâh – selâtin camii

4. Buhûrizade Mustafa İtrî Efendi tarafından bestelenen eser aşağıdakilerden hangisidir?

- A) Sema Meşki
- B) Cumhuri İlahi
- C) Bayram Tekbiri
- D) Kitabü'l Musiki el-Kebir

5. Şehirlerin kuruluşu ile ilgili aşağıdakilerden hangisi yanlıştır?

- A) Ülke sınırlarını korumak için garnizon şehirleri kurulmuştur.
- B) Sanayi İnkılâbı'ndan sonra yeni şehirlerin kurulması zorlaşmıştır.
- C) Sanayi şehirleri, ticari amaçlarla liman şehri tarzında inşa edilmiştir.
- D) Çeşitli nedenlerle şehirler yaşanamaz duruma gelince yenileri kurulmuştur.

6. İnsanoğlu; varoluşundan itibaren topluluklar hâlinde yaşamış ve yaşam alanlarını büyüklüğüne, sahip olduğu imkânlarla göre bazı isimlerle nitelendirmiştir. Bu yerleşim birimleri arasında nüfus, idari yapılanma ve imkânlar yönünden en gelişmiş olanı - - - - olarak adlandırılmaktadır.

Bu metinde boş bırakılan yere aşağıdakilerden hangisi getirilmelidir?

- A) kasaba
- B) oba
- C) köy
- D) şehir

7. • İslam şehirlerinde yol sistemi halkın kolaylıkla camiye ulaşabileceği şekilde planlanmıştır.
• Günlük işler namaz saatlerine göre ayarlanmıştır.

Bu bilgilerden İslam şehirleri ile ilgili aşağıdakilerden hangisi çıkarılabilir?

- A) Din, hayatın merkezine alınır.
- B) Güvenliğe önem verilir.
- C) Mütevazılık esas alınır.
- D) Aşırılıktan uzak durulur.

8. Hz. Muhammed (sav) döneminde yönetim merkezi olarak da kullanılan mescit aşağıdakilerden hangisidir?

- A) Mescid-i Haram
- B) Mescid-i Nebevi
- C) Mescid-i Kuba
- D) Mescid-i Aksa

9. Aşağıdaki yazar-eser eşleştirmelerinden hangisi yanlıştır?

- A) Sezai Karakoç – Düşünceler
- B) Nurettin Topçu – Kültür ve Medeniyet
- C) Tahiri'l Mevlevi – Umrandan Uygurluğu
- D) Gaspıralı İsmail Bey – Medeniyet-i İslamiye

10. Kur'an-ı Kerim, Allah'ın birliğini ve tekliğini vurgular. İçerdiği emir ve yasaklarıyla Müslümanların hayatına yön verir. Bu sayede kişi inanmanın verdiği güçle hayata bağlanır ve yaşamını daha iyi anlamlandırır.

Bu metin İslam medeniyetinin manevi imkânlarından hangisi ile ilişkilendirilebilir?

- A) Aile
- B) Cami
- C) Tevhit ve iman
- D) Tarih şuuru

11. Şarkiyatçıların İslam kültür ve medeniyeti üzerine yaptığı çalışmalar ile ilgili aşağıdakilerden hangisi söylenemez?

- A) Avrupa'daki el yazması eserleri düzenlemişlerdir.
- B) Bazı eserlerini bilimsel metot ile yazmışlardır.
- C) Müslüman araştırmacılara kaynaklık etmişlerdir.
- D) Eserlerinde ön yargılı yorumlardan uzak durmuşlardır.

(818) AKAİD – 2

1. Peygamberler de evlenir, çocuk sahibi olur, çalışır, hastalanır ve zamanı gelince vefat eder.

Bu cümle aşağıdaki ayetlerden hangisi ile ilişkilendirilebilir?

- A) "Andolsun, senden önce de peygamberler gönderdik. Onlardan sana anlattıklarımız da var, anlatmadıklarımız da var..." (Mü'min suresi, 78. ayet)
- B) "Kitap'ta İbrahim'i de an. Gerçekten o, son derece dürüst bir kimse, bir peygamberdi." (Meryem suresi, 41. ayet)
- C) "Ey kavmim! Ben akılsız değilim. Aksine ben âlemlerin Rabb'i tarafından gönderilmiş bir peygamberim." (A'râf suresi, 67. ayet)
- D) "De ki: 'Ben de ancak sizin gibi bir insanım. Bana, ilâhınızın tek ilâh olduğu vahyolunuyor...'" (Kehf suresi, 110. ayet)

2. Kur'an-ı Kerim'de "Allah'ın izniyle ölüleri diriltmesi ve çamurdan kuş yapıp uçurması" gibi mucizeleri ile anlatılan peygamber aşağıdakilerden hangisidir?

- A) Hz. İsa
- B) Hz. Yakub
- C) Hz. Musa
- D) Hz. Süleyman

2. OTURUM

3. Aşağıdaki peygamber ve kendisine tebliğ edilen suhuf sayısı eşleş-tirmelerinden hangisi yanlıştır?

- A) Hz. Âdem – 10
B) Hz. İdris – 20
C) Hz. İbrahim – 10
D) Hz. Şit – 50

4. Aşağıdakilerden hangisi 325 yılın-da toplanan İznik Konsili'nde ince-lemeye tâbi tutularak seçilen İncil'lerden biri değildir?

- A) Matta B) Luka
C) Barnaba D) Yuhanna

5. İnsan, dünya hayatında amaçsızca yaşasın ve sonunda yok olup gitsin diye var edilmemiştir.

Bu cümle aşağıdaki ayetlerden hangisi ile ilişkilendirilebilir?

- A) "Allah, diriği ölüden çıkarır, ölüyü de diriden çıkarır. Ölümünden sonra yeryüzünü diriltir. Siz de işte böyle çıkarılacaksınız."
(Rûm suresi, 19. ayet)
B) "Biz, gökleri, yeri ve bunlar arasın-da bulunanları, eğlenmek için yaratmadık."
(Duhân suresi, 38. ayet)
C) "Gökleri ve yeri yaratan ve onları yaratmakta yorulmayan Allah'ın, ölüleri diriltmeye gücünün yeteceğini görmediler mi?..."
(Ahkâf suresi, 33. ayet)
D) "İlk yaratmada âcizlik mi gösterdik ki? Doğrusu onlar yeni bir yaratma hususunda şüphe içindedirler."
(Kâf suresi, 15. ayet)

6. Aşağıdakilerden hangisi Kur'an-ı Kerim'de kıyâmeti ifade etmek için kullanılan kavramlardan biridir?

- A) Kâria B) Mûteâl
C) Ulvî D) Zelle

7. "...Allah'a saygılı olun. Bilin ki sizler O'nun huzurunda toplanacaksınız!"
(Bakara suresi, 203. ayet)

Bu ayet ahiret hayatının safhala-rından hangisi ile ilgilidir?

- A) Ba's B) Sırat
C) Haşr D) Mizan

8. Kur'an-ı Kerim'de geçen "Leza ve Hutame" gibi kavramlar aşağıdaki-lerden hangisini ifade etmektedir?

- A) Kaza B) Kader
C) Cennet D) Cehennem

9. "Bir şeyin yapılmasına da yapılmamasına da muktedir olan kişinin, bu ikisinden birini kendi isteğiyle tercih etmesi" **şeklinde tanımlanan kavram hangisidir?**

- A) Tevekkül B) Kader
C) İrade D) Kaza

10. Allah, kıyâmetin kopacağı zamanı, ahirette insanlara sorulacak soruları, insanın nerede ve ne zaman öleceğini bilir.

Bu cümle, Allah'ın aşağıdaki sıfat-larından hangisi ile doğrudan ilgili-dir?

- A) İlim B) Hayat
C) Kelam D) Tekvin

11. Kur'an-ı Kerim'de, Güneş ve Ay baş-ta olmak üzere kâinattaki varlıkların kendileri için belirlenmiş yörüngeler-de akıp gittiği ve her şeyin bir ölçüye göre hareket ettiği bildirilmiştir.

Bu cümleden aşağıdakilerin hangi-sine ulaşılabilir?

- A) İnsana akıl ve irade gücü verildiğine
B) Her şeyin bir kadere göre yaratıldı-ğına
C) Kaderin toplumsal yönünün bulun-duğuna
D) İnsanın gücü ölçüsünde sorumlu tutulduğuna

(820) KELAM – 2

1. I. Bölgeseldir.
II. Sayısı birden fazla olabilir.
III. Hükümleri değişmez.
IV. Mezhep imamlarının görüşlerine dayanır.

Numaralanmış özelliklerden hangisi "dinî yorum" ile ilgili değildir?

- A) I B) II C) III D) IV

2. İnanç alanında farklılıkların ortaya çıkmasının birçok sebebi vardır. Bu sebeplerden biri de dinî metinlerin lafızlarından ve anlamlarından kay-naklanır.

Bu durum aşağıdakilerden hangisi ile ilgilidir?

- A) Muhkem naslar
B) Müteşabih ayetler
C) İmamet meselesi
D) İnsanın fikir hürriyeti

3. Aşağıdakilerden hangisi bir dinin inanç temelini ifade etmek üzere kullanılan kavramlardan biridir?

- A) Akaid B) Tefsir
C) Fıkıh D) Hadis

4. I. İman, dil ile ikrardan ibarettir.
II. İnsan hür irade sahibidir ve yap-tıklarından sorumludur.
III. Kur'an-ı Kerim Allah'ın vahyidir ve değişmemiştir.

Ehl-i sünnet mezhebinin görüşleri ile ilgili numaralanmış ifadeler doğru(D) – yanlış(Y) olarak değeri-lendirildiğinde sıralama nasıl olur?

- A) Y – D – Y
B) D – Y – Y
C) Y – D – D
D) D – Y – D

5. Maturîdî mezhebine göre insanın fiillerini Allah yaratır, insan onları kesbeder. Bu nedenle yaptığı bütün fiillerinden sorumludur.

Bu metinde altı çizili bölüm ile ifa-de edilmek istenen aşağıdakiler-den hangisidir?

- A) İstemek B) Dilemek
C) Düşünmek D) Kazanmak

2. OTURUM

6. Aşağıdakilerden hangisi Hâricîliğin doğuşunda etkili olan sebeplerden biri değildir?

- A) Kureyş merkezli otoritenin reddedilmesi
- B) İnsanın irade ve hürriyetinin olmadığı savunması
- C) Şehir hayatına uyum sağlamakta zorluk yaşanması
- D) Kur'an-ı Kerim'in zahirî yorumuna dayalı din anlayışının esas alınması

7. "Mürchie" kavramı hangi anlama gelmektedir?

- A) Taraf tutan
- B) Bozgunculuk çıkaran
- C) Ayrılan, terk edip giden
- D) Erteleyen, geriye bırakan

8. Çok tanrılı inanç sistemlerinde tanrılar sınırsız güç ve bilgiye sahip değildir, bunun yerine insan benzeri kişisel özellikleri bulunmaktadır.

Bu durum aşağıdaki kavramlardan hangisi ile ifade edilmektedir?

- A) Antropomorfizm
- B) Maniheizm
- C) Politeizm
- D) Monoteizm

9. Tanrının varlığını ne teizm gibi kabul eden ne de ateizm gibi reddeden inanç sistemi aşağıdakilerden hangisidir?

- A) Nihilizm
- B) Pozitivizm
- C) Agnostisizm
- D) Sekülerizm

10. "Benim benden önce gelen peygamberlere nispetle durumum şuna benzer: Bir adam büyük bir bina yaptırıp onu güzelce dayayıp döşer fakat bir köşede bir tuğlalık boş yer bırakır. Ahali binanın etrafında dolaşır ve güzelliğine hayran kalır fakat şunu söylemeden edemez: 'Niçin bu tuğlanın yeri boş?' İşte ben o son tuğlayım ve peygamberlerin sonucusuyum."

Bu hadis Hz. Muhammed (sav) ile ilgili aşağıdakilerden hangisine işaret etmektedir?

- A) Hâtemü'l-enbiyâ olmasına
- B) Beşerî özellik taşımasına
- C) En güzel örnek olmasına
- D) Muhammed'ül emin olmasına

11. "Sinâ dağına andolsun. Bu güvenli şehre andolsun ki; biz gerçekten insanı en güzel bir biçimde yarattık."
(Tîn suresi, 2-4. ayetler)

Bu ayetlerde altı çizili bölüm aşağıdaki kavramlardan hangisi ile ifade edilmektedir?

- A) Mâlikü'l-mülk
- B) Ahsen'ül-hâlikîn
- C) Erhamu'r-râhimîn
- D) Yahkümü mâ yürîd

(826) OSMANLI TÜRKÇESİ – 2

1. Aşağıdaki kelimelerin hangisinde "kef" diğerlerinden farklı bir sesi karşılamıştır?

- A) كدى
- B) كورك
- C) كوپرو
- D) گلین

2. Aşağıdaki kelimelerin hangisinde kalın ünsüz kullanılmamıştır?

- A) صوصمش
- B) دنيامده
- C) طرزیدی
- D) فقره نڭ

3. Aşağıdaki kelimelerin hangisinde çoğul eki kullanılmıştır?

- A) كوتور
- B) پارانتز
- C) كتابلر
- D) ایشسز

4. باتیده کی رسم و هیكل صنعترینه
I
قارشیلق اسلام مدنیتنده حسن خط
II
قوللانیمشدیر.

Bu cümledeki altı çizili sözlerle ilgili aşağıdakilerden hangisi söylenemez?

- A) I. söz Türkçe kökenlidir.
- B) I. söz ek almıştır.
- C) II. söz Farsça yapılı bir tamlamadır.
- D) II. söz bir sanat dalının ismidir.

5. طائفه نڭ عقالیسی، گمیناڭ
II I
دومندن اوزاق طورور.
IV III

Bu cümledeki altı çizili sözlerden hangisi denizcilikle ilgili değildir?

- A) I
- B) II
- C) III
- D) IV

6. هر زمان هرکسي ممنون ايده مه -
يز اما هرکسي ممنون
ايده جک بيچيمده قونوشابيليرز.

Bu cümlede anlatılmak istenen aşağıdaki atasözlerinin hangisiyle ilişkilendirilebilir?

- A) Tatlı dil yılanı deliğinden çıkarır.
- B) Dügün aşıyla dost ağırılmaz.
- C) Altın anahtar her kapıyı açar.
- D) Rüzgârın önüne düşen yorulmaz.

7.

ای وطنڭ شانلی غزا مۆکی
صالديریڭز دشمانه آرسلان گبی .
ایشته خدا یاور یڭز هم نبی .
هایدی گیدڭ، هایدی، او غورلر اول!

Bu dördlüğün teması aşağıdakilerden hangisidir?

- A) Savaş ihtiyaçları
- B) Vatan sevgisi
- C) Ayrılık acısı
- D) Şehitlerin kıymeti

8. "Her iş, zamanında ve uygun durumda yapılır." anlamına gelen atasözü aşağıdakilerden hangisidir?

- A) بوش چووال دیک طورماز.
- B) ایکی آل بر باش ایچوندر.
- C) عقل عقلدن اوستوندر.
- D) دمیر طاونده دوگولور.

2. OTURUM

(932) SİYER – 2

9. گونده، الك آزندن بش
وقت، بشيگك ياننده ديز
چوكويوردى عثمان و
بشيگده سانكه اورخاني دگل
ده اورخانك گوندره جگى مژده-
لرى گورويوردى.

**Bu parçada geçen özel isimler
aşağıdakilerin hangisinde veril-
miştir?**

- A) Mehmet ve Murat
B) Orhan ve Mehmet
C) Orhan ve Osman
D) Osman ve Murat

10. سعادت او قدر نسبیدرکه سنی
مسعود ایدن حال قومشوگی
بدبخت ایده بیلیر.

**Bu cümlede altı çizili kelimeler ara-
sındaki anlam ilişkisi aşağıdakiler-
den hangisidir?**

- A) Eş anlamlılık
B) Zıt anlamlılık
C) Eş seslilik
D) Yakın anlamlılık

11. Aşağıdakilerden hangisi emir cüm-
lesi değildir?

- A) هپ بردن آیاغه قالفك .
B) ایلری گیتمه یك .
C) صوگیدی او برج قاپوسنه
گیدن یولك .
D) سیس آچیلمه یه باشلاینجه
همن صوصك .

1. I. Habeşistan'a hicretin gerçekleş-
mesi
II. Gizli davet döneminin sona ermesi
III. Fetretü'l-vahy döneminin yaşan-
ması
IV. Müslümanlara boykot uygulanması

**Numaralanmış olaylardan hangisi
diğerlerinden daha önce gerçek-
leşmiştir?**

- A) I B) II C) III D) IV

2. Aşağıdakilerden hangisi müşrikle-
rin, İslam davetine karşı çıkmaları-
nın sebeplerinden biri değildir?

- A) Geleneklerine sıkı sıkıya bağlı
olmaları
B) Siyasi ve ekonomik kaygı duyma-
ları
C) Asabiyet anlayışına önem verme-
leri
D) Haniflik inancına sahip olmaları

3. Aşağıdakilerden hangisi Müslüman-
ların hicret için Habeşistan'ı tercih
etme sebeplerinden biri değildir?

- A) Kara yolu ile kolayca ulaşılabilir bir
konumda olması
B) Kureyş ile aralarında ticari antlaş-
maların bulunması
C) Başında adaletli bir hükümdarın
bulunması
D) Hükümdarlarının Ehl-i kitap olması

4. Aşağıdakilerden hangisi Müslüman-
lara karşı uygulanan boykot kararla-
rı ile baskı altına alınmak istenen
kabilelerden biridir?

- A) Mahzumoğulları
B) Haşimoğulları
C) Selemeoğulları
D) Nadiroğulları

5. Hicret yolculuğunda kendi arazisin-
den geçmekte olan Hz. Muhammed'i
(sav) engellemek istemesine rağmen
onun konuşmasından etkilenmiş ve
kabilesiyle birlikte Müslüman olmuş-
tur. Ayrıca Hz. Muhammed'e (sav)
kendini topraklarından çıkana kadar
muhafız birliği olarak eşlik etmiştir.

**Bu metinde hakkında bilgi verilen
kişi aşağıdakilerden hangisidir?**

- A) Büreyde bin Husayb
B) Abdullah bin Uraykıt
C) Sürâka bin Mâlik
D) Esad bin Zürene

6. Müslümanlar Yesrib'e yolculukları-
nı gizlilik içinde gerçekleştirirken
Kâbe'ye gidip hicret için yola çıka-
cağını açıkça söyleyerek meydan
okuyan sahabe aşağıdakilerden
hangisidir?

- A) Sa'd bin Ebi Vakkas
B) Ali bin Ebi Talib
C) Ömer bin Hattâb
D) Osman bin Affan

7. Medine'deki teşrî hükümlerden
hangisi diğerlerinden daha sonra
emredilmiştir?

- A) Oruç B) Zekât
C) Tesettür D) Hac

8. Aşağıdakilerden hangisi Uhud
Savaşı ile ilgili doğru bir bilgi
değildir?

- A) Hicretin üçüncü yılında gerçekleş-
miştir.
B) Halid bin Velid müşrikler tarafın-
dan esir alınmıştır.
C) Musab bin Umeyr ve Hz. Hamza
şehit edilmiştir.
D) Hz. Muhammed (sav) bizzat ken-
disi komuta etmiştir.

9. Medine'ye hicret yıllarında şehrin
dışında yaşayan en güçlü ve teşki-
latlı Yahudi grubu aşağıdaki şehir-
lerin hangisinde bulunmaktadır?

- A) Hayber B) Huneyn
C) Şam D) Taif

2. OTURUM

10. Hicretin kaçınıcı yılı "senetü'l-vüfud" olarak anılmaktadır?

- A) Üçüncü B) Beşinci
C) Yedinci D) Dokuzuncu

11. Hz. Muhammed'in (sav) vefatı ile ilgili verilen bilgilerden hangisi yanlıştır?

- A) Cenaze namazını Hz. Ebu Bekir kıldırılmıştır.
B) Defin işlemleriyle Hz. Ali ilgilenmiştir.
C) Hz. Aişe'nin odasına defnedilmiştir.
D) Hicri 632 yılında gerçekleşmiştir.

(998) MATEMATİK – 1

1. $(1 \Rightarrow p) \vee (q \wedge 0)$ bileşik önermesinin en sade biçimi aşağıdakilerden hangisidir?

- A) 0 B) 1 C) p D) q

2. Almanca, İngilizce ve Türkçeden en az birini bilenlerin oluşturduğu 30 kişilik bir toplulukta Almanca bilenlerin tümü İngilizce, İngilizce bilenlerin tümü Türkçe bilmektedir.

Bu toplulukta Almanca bilen 3 kişi ve yalnız Türkçe bilen 20 kişi olduğuna göre, İngilizce bilip Almanca bilmeyen kaç kişi vardır?

- A) 7 B) 10 C) 20 D) 27

3. -27 'nin çarpma işlemine göre tersi ile 81 'in toplama işlemine göre tersinin çarpımı kaçtır?

- A) -3 B) $-\frac{1}{3}$ C) $\frac{1}{3}$ D) 3

4. Dört basamaklı $7a3b$ sayısı 4 ile tam bölünebildiğine göre $a + b$ 'nin alabileceği en büyük değer kaçtır?





- A) 18 B) 17 C) 16 D) 15

5. A ve B birbirinden farklı pozitif tam sayılardır.

EBOB(A, B) = 7 olduğuna göre, A + B en az kaçtır?

- A) 8 B) 14 C) 21 D) 28

6. $A = \{x: 1 < x \leq 4, x \in \mathbb{R}\}$ kümesinin sayı doğrusu üzerinde gösterimi aşağıdakilerden hangisidir?

- A) 
- B) 
- C) 
- D) 

7. a bir gerçık sayı olmak üzere, $(a + 3)x^2 + (a + 2)x = 5$ denkleminin x değişkenine bağlı birinci dereceden bir bilinmeyenli bir denklem olduğuna göre, x kaçtır?

- A) -5 B) -3 C) 1 D) 3

8. $|4x + 3| \leq 11$ eşitsizliğini sağlayan kaç tane x tam sayısı vardır?

- A) 7 B) 6 C) 5 D) 4

$$\begin{cases} 6x + y = 15 \\ 3x + 2y = 12 \end{cases}$$

denklem sisteminin çözüm kümesi aşağıdakilerden hangisidir?

- A) $\{(3, 2)\}$ B) $\{(3, -2)\}$
C) $\{(2, 3)\}$ D) $\{(-2, 3)\}$

10. $(2x - 6)^3 = 64$ olduğuna göre, x kaçtır?

- A) 1 B) 2 C) 4 D) 5

11. $\frac{\sqrt{2}}{\sqrt{2}-1} + \frac{2}{\sqrt{2}+1}$ işleminin sonucu kaçtır?

- A) $3\sqrt{2}$ B) 3
C) 2 D) $\sqrt{2}$

**TEST BİTTİ.
CEVAPLARINIZI KONTROL EDİNİZ.**

CEVAP KÂĞIDI VE SORU KİTAPÇIĞI İLE İLGİLİ AÇIKLAMALAR

1. Cevap kâğıdınızdaki bilgilerin doğruluğunu kontrol ediniz ve cevap kâğıdınızı imzalayınız.
2. Cevap kâğıdı üzerinde kodlamalarınızı siyah kurşun kalemle yapınız.
3. Değiştirmek istediğiniz bir cevabı, yumuşak silgiyle cevap kâğıdını yıpratmadan temizce siliniz ve yeni cevabınızı kodlayınız.
4. Soru kitapçığının sayfalarını görevlilerin uyarıları doğrultusunda kontrol ediniz, baskı hatası var ise değiştirilmesini sağlayınız.
5. Soruların çözümü için size ayrıca boş kâğıt verilmeyecektir. Soru kitapçığının içindeki boş alanları soru çözümleri için kullanabilirsiniz.
6. Her sorunun dört seçeneğinden sadece biri doğrudur. Doğru seçeneği, cevap kâğıdınızın ilgili sütununa soru numarasını dikkate alarak yuvarlağın dışına taşımadan kodlayınız. Soru kitapçığı üzerinde yapılan cevaplandırmalar dikkate alınmayacaktır.
7. Cevaplamaya istediğiniz dersin sorusundan başlayabilirsiniz. Cevabını bilmediğiniz sorular üzerinde fazla zaman kaybetmeden diğer sorulara geçiniz. Zamanınız kalırsa bu sorulara daha sonra dönebilirsiniz.
8. Yanlış cevaplarınız dikkate alınmadan sadece doğru cevaplarınız üzerinden puanlama yapılacaktır.
9. Soruları ve sorulara verdiğiniz cevapları, yanınızda götürmek amacıyla kaydetmeyiniz; hiçbir şekilde dışarı çıkarmayınız.
10. Sınav bitiminde soru kitapçığı ve cevap kâğıdını salon görevlilerine teslim ediniz.
11. Aday tarafından cevap kâğıdına yazılması veya işaretlenmesi gereken bilgilerde eksiklik ya da yanlışlık olması durumunda sorumluluk adaya ait olacaktır.

SALON GÖREVLİLERİNCE SINAV BAŞLAMADAN ÖNCE ADAYLARA YAPILACAK SON UYARILAR

- Soracağınız bir şey varsa şimdi sorunuz, sınav başladıktan sonra sorularınıza cevap verilmeyecektir.
- Başlama zilini bekleyiniz.

Hepinize başarılar dileriz.

(Salon başkanı başlama ve bitiş saatini tahtaya yazacaktır.)

Bu kitapçığın her hakkı saklıdır. Hangi amaçla olursa olsun, kitapçığın tamamının veya bir kısmının Millî Eğitim Bakanlığı Ölçme, Değerlendirme ve Sınav Hizmetleri Genel Müdürlüğü'nün yazılı izni olmadan kopya edilmesi, fotoğraflarının çekilmesi, bilgisayar ortamına alınması, herhangi bir yolla çoğaltılması, yayımlanması veya başka bir amaçla kullanılması yasaktır. Bu yasağa uymayanlar, doğabilecek cezai sorumluluğu ve kitapçığın hazırlanmasındaki mali külfeti peşinen kabullenmiş sayılır.

16 MART 2024 TARİHİNDE YAPILAN AÇIK ÖĞRETİM LİSESİ / MESLEKİ AÇIK ÖĞRETİM LİSESİ /
AÇIK ÖĞRETİM İMAM HATİP LİSESİ
2023-2024 ÖĞRETİM YILI 2. DÖNEM SINAVI 2. OTURUM T KİTAPÇIĞI CEVAP ANAHTARI

(117) DİN KÜL. AHL. BİL. – 7

1. B
2. D
3. B
4. A
5. C
6. B
7. C
8. C
9. D
10. A
11. B

(135) SEÇMELİ TARİH – 1

1. C
2. D
3. D
4. B
5. A
6. B
7. C
8. D
9. C
10. A
11. D

(156) SEÇMELİ
COĞRAFYA – 2

1. D
2. D
3. B
4. A
5. C
6. A
7. B
8. D
9. C
10. A
11. B

(182) FRANSIZCA – 2

1. B
2. C
3. A
4. D
5. C
6. A
7. B
8. C
9. A
10. B
11. D

(118) DİN KÜL. AHL. BİL. – 8

1. B
2. D
3. D
4. B
5. C
6. A
7. B
8. A
9. C
10. A
11. B

(137) TARİH – 5

1. B
2. C
3. A
4. C
5. D
6. B
7. D
8. A
9. C
10. D
11. A

(164) MATEMATİK – 4

1. D
2. A
3. C
4. A
5. B
6. A
7. D
8. C
9. C
10. B
11. B

(196) SEÇMELİ ORTAK TÜRK
TARİHİ – 2

1. D
2. C
3. B
4. A
5. D
6. A
7. B
8. C
9. B
10. D
11. C

(126) FELSEFE – 4

1. A
2. C
3. B
4. A
5. B
6. D
7. B
8. C
9. C
10. D
11. A

(141) T.C. İNK. TAR. ATA. – 1

1. A
2. D
3. C
4. B
5. C
6. D
7. C
8. B
9. A
10. D
11. B

(182) İNGİLİZCE – 2

1. A
2. B
3. A
4. C
5. B
6. D
7. C
8. A
9. B
10. C
11. D

(207) SEÇ. PSİKOLOJİ – 2

1. A
2. B
3. D
4. A
5. B
6. C
7. C
8. B
9. C
10. D
11. A

(131) TARİH – 1

1. A
2. C
3. D
4. B
5. C
6. B
7. D
8. B
9. A
10. C
11. A

(152) COĞRAFYA – 2

1. D
2. B
3. D
4. C
5. A
6. C
7. B
8. A
9. C
10. B
11. D

(182) ALMANCA – 2

1. B
2. C
3. D
4. D
5. C
6. D
7. A
8. A
9. B
10. A
11. C

(208) SEÇ. SOSYOLOJİ – 1

1. A
2. D
3. C
4. B
5. C
6. A
7. B
8. A
9. D
10. B
11. C

16 MART 2024 TARİHİNDE YAPILAN AÇIK ÖĞRETİM LİSESİ / MESLEKİ AÇIK ÖĞRETİM LİSESİ /
AÇIK ÖĞRETİM İMAM HATİP LİSESİ
2023-2024 ÖĞRETİM YILI 2. DÖNEM SINAVI 2. OTURUM T KİTAPÇIĞI CEVAP ANAHTARI

(221) SAĞLIK BİLGİSİ VE
TRAFİK KÜLTÜRÜ – 1

1. A
2. C
3. D
4. B
5. C
6. B
7. D
8. A
9. C
10. A
11. B

(422) FİZİK – 2

1. A
2. B
3. B
4. D
5. B
6. C
7. D
8. B
9. D
10. A
11. C

(437) SEÇMELİ KİMYA – 3

1. C
2. D
3. D
4. A
5. A
6. B
7. C
8. B
9. D
10. D
11. C

(447) SEÇMELİ BİYOLOJİ – 3

1. C
2. C
3. B
4. D
5. A
6. B
7. D
8. D
9. A
10. B
11. D

(243) İNGİLİZCE – 4

1. D
2. A
3. B
4. A
5. C
6. B
7. C
8. D
9. B
10. A
11. C

(423) FİZİK – 3

1. A
2. B
3. D
4. A
5. A
6. C
7. D
8. C
9. D
10. B
11. C

(438) SEÇMELİ KİMYA – 4

1. A
2. C
3. D
4. B
5. D
6. A
7. A
8. B
9. A
10. B
11. C

(451) SEÇ. ÇAĞDAŞ TÜRK
VE DÜNYA TARİHİ – 1

1. A
2. C
3. A
4. B
5. D
6. C
7. C
8. B
9. A
10. D
11. A

(243) ALMANCA – 4

1. B
2. B
3. D
4. B
5. A
6. D
7. C
8. D
9. C
10. C
11. A

(424) FİZİK – 4

1. D
2. A
3. D
4. B
5. D
6. B
7. C
8. B
9. D
10. C
11. A

(442) BİYOLOJİ – 2

1. B
2. A
3. A
4. A
5. D
6. C
7. D
8. C
9. D
10. C
11. D

(455) SEÇ. DEM. VE İNSAN
HAK. – 1

1. A
2. D
3. B
4. C
5. A
6. C
7. B
8. B
9. D
10. D
11. C

(243) FRANSIZCA – 4

1. D
2. B
3. C
4. B
5. D
6. A
7. C
8. B
9. C
10. D
11. A

(431) KİMYA – 1

1. D
2. B
3. A
4. A
5. C
6. C
7. B
8. D
9. B
10. A
11. C

(444) BİYOLOJİ – 4

1. D
2. B
3. A
4. B
5. C
6. C
7. C
8. A
9. C
10. C
11. D

(466) TEMEL DİNİ BİL. – 2

1. A
2. C
3. B
4. C
5. B
6. A
7. C
8. D
9. A
10. B
11. C

16 MART 2024 TARİHİNDE YAPILAN AÇIK ÖĞRETİM LİSESİ / MESLEKİ AÇIK ÖĞRETİM LİSESİ /
AÇIK ÖĞRETİM İMAM HATİP LİSESİ
2023-2024 ÖĞRETİM YILI 2. DÖNEM SINAVI 2. OTURUM T KİTAPÇIĞI CEVAP ANAHTARI

(467) SEÇ. MATEMATİK – 3

1. A
2. D
3. C
4. D
5. C
6. C
7. B
8. D
9. A
10. B
11. A

(512) FIKIH – 2

1. C
2. D
3. B
4. A
5. D
6. D
7. B
8. C
9. A
10. C
11. D

(541) TÜRK DİLİ VE ED. – 1

1. C
2. A
3. D
4. A
5. B
6. D
7. B
8. C
9. B
10. D
11. C

(820) KELAM – 2

1. C
2. B
3. A
4. C
5. D
6. B
7. D
8. A
9. C
10. A
11. B

(501) İNGİLİZCE – 7

1. B
2. A
3. C
4. D
5. C
6. D
7. B
8. B
9. A
10. D
11. C

(531) SEÇMELİ
PEYGAMBERİMİZİN HAYATI – 1

1. D
2. B
3. A
4. C
5. B
6. D
7. C
8. A
9. D
10. B
11. B

(612) DİNLER TARİHİ – 2

1. A
2. D
3. B
4. C
5. D
6. D
7. B
8. D
9. C
10. A
11. A

(826) OSMANLI
TÜRKÇESİ – 2

1. D
2. B
3. C
4. A
5. D
6. A
7. B
8. D
9. C
10. B
11. C

(501) ALMANCA – 7

1. B
2. C
3. B
4. D
5. A
6. C
7. D
8. A
9. A
10. C
11. B

(536) SEÇMELİ
PEYGAMBERİMİZİN HAYATI – 6

1. C
2. A
3. D
4. C
5. B
6. A
7. C
8. D
9. B
10. A
11. A

(714) İSLAM KÜLTÜR
VE MEDENİYETİ – 2

1. A
2. D
3. B
4. C
5. B
6. D
7. A
8. B
9. C
10. C
11. D

(932) SİYER – 2

1. C
2. D
3. A
4. B
5. A
6. C
7. D
8. B
9. A
10. D
11. A

(501) FRANSIZCA – 7

1. C
2. B
3. D
4. B
5. C
6. D
7. B
8. A
9. A
10. D
11. A

(538) SEÇMELİ
PEYGAMBERİMİZİN HAYATI – 8

1. A
2. B
3. C
4. A
5. D
6. B
7. A
8. C
9. D
10. C
11. C

(818) AKAD – 2

1. D
2. A
3. B
4. C
5. B
6. A
7. C
8. D
9. C
10. A
11. B

(998) MATEMATİK – 1

1. C
2. A
3. D
4. D
5. C
6. B
7. A
8. B
9. C
10. D
11. A