

OTURUM

1



T.C.  
MİLLÎ EĞİTİM BAKANLIĞI  
ÖLÇME, DEĞERLENDİRME VE SINAV HİZMETLERİ  
GENEL MÜDÜRLÜĞÜ

T

AÇIK ÖĞRETİM LİSESİ / MESLEKİ AÇIKÖĞRETİM LİSESİ  
2015-2016 ÖĞRETİM YILI 3. DÖNEM SINAVI  
1. OTURUM: 11 HAZİRAN 2016 Saat: 09.30

<u>DERS KODU VE ADI</u>	<u>SAYFA</u>	<u>DERS KODU VE ADI</u>	<u>SAYFA</u>	<u>DERS KODU VE ADI</u>	<u>SAYFA</u>
(111) DİN KÜL. AHL. BİL. – 1	3	(407) DİL VE ANLATIM – 7	26	(502) İNGİLİZCE – 8	53
(112) DİN KÜL. AHL. BİL. – 2	4	(408) DİL VE ANLATIM – 8	28	(502) ALMANCA – 8	54
(115) DİN KÜL. AHL. BİL. – 5	5	(414) TÜRK EDEBİYATI – 4	29	(502) FRANZIZCA – 8	55
(121) FELSEFE – 1	6	(417) TÜRK EDEBİYATI – 7	31	(511) FIKİH – 1	56
(123) SEÇMELİ FELSEFE – 1	8	(418) TÜRK EDEBİYATI – 8	33	(532) HZ. MUHAMMED'İN HAY. – 2	58
(132) TARİH – 2	9	(421) FİZİK – 1	34	(609) MATEMATİK – 6	59
(136) TARİH – 6	10	(425) FİZİK – 5	36	(611) KARŞ. DİN. TAR. – 1	61
(151) COĞRAFYA – 1	12	(432) KİMYA – 2	38	(617) SEÇ. DİL VE ANLA. – 7	62
(155) COĞRAFYA – 5	13	(436) KİMYA – 6	39	(618) SEÇ. DİL VE ANLA. – 8	63
(157) COĞRAFYA – 7	15	(441) BİYOLOJİ – 1	40	(624) SEÇ. TÜRK ED. – 4	65
(181) İNGİLİZCE – 1	16	(443) BİYOLOJİ – 3	42	(627) SEÇ. TÜRK ED. – 7	66
(181) ALMANCA – 1	17	(446) BİYOLOJİ – 6	44	(628) SEÇ. TÜRK ED. – 8	68
(181) FRANZIZCA – 1	18	(461) EKONOMİ – 1	45	(711) İSLAM TARİHİ – 1	69
(244) İNGİLİZCE – 5	19	(465) TEMEL DİNİ BİL. – 1	46	(811) KELAM – 1	71
(244) ALMANCA – 5	20	(477) İŞLETME – 2	47	(931) SİYER – 1	72
(244) FRANZIZCA – 5	21	(479) MANTIK – 2	49	(974) GİRİŞİMCİLİK – 1	73
(401) DİL VE ANLATIM – 1	22	(484) SAĞLIK BİLGİSİ – 2	50	(999) MATEMATİK – 2	74
(402) DİL VE ANLATIM – 2	24	(491) TRAF. VE İLK YARD. – 1	52		

**ADAYLARIN DİKKATİNE!**

- Her ders için **20** soru bulunmaktadır. Bu oturumda **180** dakikalık cevaplama süreniz vardır. Sınav başladıktan sonra ilk **30** dakika dolmadan dışarı çıkmayınız.
- Sınav sırasında sözlük, hesap cetveli veya makinesi, çağrı cihazı, cep telefonu, telsiz, radyo gibi elektronik iletişim araçlarını yanınızda bulundurmuyunuz. Bu araçları kullanmanız ve kopya çekmeye teşebbüs etmeniz hâlinde sınavınız geçersiz sayılacaktır.
- Başvuru şartlarını taşımadığınız hâlde sınava girmeniz, kopya çekmeniz, başka adayın sınav evrakını kullanmanız, geçerli kimlik belgenizi ve sınav giriş belgenizi ibraz edemediğiniz durumlarda sınavınız geçersiz sayılacaktır.
- Sınavın değerlendirilmesi aşamasında, kopya tespiti hâlinde sınavınız geçersiz sayılacaktır.

**CEVAP KÂĞIDI VE SORU KİTAPÇIĞI İLE İLGİLİ AÇIKLAMALAR**

- Cevap kâğıdınızdaki bilgilerin doğruluğunu kontrol ediniz ve cevap kâğıdınızı mürekkepli kalemle imzalayınız.
- Cevap kâğıdı üzerinde kodlamalarınızı kurşun kalemle yapınız.
- Değiştirmek istediğiniz bir cevabı, yumuşak silgiyle cevap kâğıdını örselemeden temizce siliniz ve yeni cevabınızı kodlayınız.
- Soru kitapçığının sayfalarını kontrol ediniz, baskı hatası var ise değiştirilmesini sağlayınız.
- Soruların çözümü için size ayrıca boş kâğıt verilmeyecektir. Soru kitapçığının içindeki boş alanları soru çözümleri için kullanabilirsiniz.
- Her sorunun dört seçeneğinden sadece biri doğrudur. Doğru seçeneği, cevap kâğıdınızın ilgili sütununa soru numarasını dikkate alarak yuvarlağın dışına taşırmadan kodlayınız. **Soru kitapçığı üzerinde yapılan cevaplandırmalar dikkate alınmayacaktır.**
- Cevaplamaya istediğiniz dersin sorusundan başlayabilirsiniz. Cevabını bilmediğiniz sorular üzerinde fazla zaman kaybetmeden diğer sorulara geçiniz. Zamanınız kalırsa bu sorulara daha sonra dönebilirsiniz.
- Yanlış cevaplarınız dikkate alınmadan sadece doğru cevaplarınız üzerinden puanlama yapılacaktır.
- Soruları ve sorulara verdiğiniz cevapları, yanınızda götürmek amacıyla kaydetmeyiniz; hiçbir şekilde dışarı çıkarmayınız.
- Sınav bitiminde, soru kitapçığı ve cevap kâğıdını salon görevlilerine teslim ediniz.**

**BAŞLAYINIZ DENİLMEYEN SORU KİTAPÇIĞINI AÇMAYINIZ.**



## 1. OTURUM

(111) DİN KÜL. AHL. BİL. – 1

1. Aşağıdaki davranışlardan hangisi ibadet kapsamında değerlendirilemez?

- A) Çirkin ve kötü davranışlardan uzak durmak
- B) İnsanların sevincini ve üzüntüsünü paylaşmak
- C) Allah'ın rızasını kazanmak için güzel işler yapmak
- D) Müslüman olmayan insanları toplumdan dışlamak

2. Aşağıdakilerden hangisi ibadetin yapılış amaçlarından biri değildir?

- A) Allah'ın nimetlerine şükretmek
- B) Toplumda saygınlık kazanmak
- C) Cehennem azabından korunmak
- D) Kulluk görevini yerine getirmek

3. Aşağıdakilerden hangisi abdestin farzlarından biridir?

- A) Başını mesh etmek
- B) Boyunu mesh etmek
- C) Ağız su ile çalkalamak
- D) Besmele ile başlamak

4. Aşağıdakilerden hangisi teyemmümün şartlarından biridir?

- A) Başını mesh etmek
- B) Yüzünü mesh etmek
- C) Ayakları mesh etmek
- D) Ağız ve burnu temizlemek

5. “Şayet yerde ve gökte Allah'tan başka ilahlar olsaydı yerin ve göğün düzeni bozulurdu...”  
(Enbiyâ suresi, 22. ayet)

**Bu ayette aşağıdakilerden hangisine vurgu yapılmaktadır?**

- A) Allah'ın birliğine
- B) Kâinattaki düzene
- C) Dünya'nın boş yere yaratılmadığına
- D) Evrenin Allah tarafından yaratıldığına

6. Tanrı: Sadece kendisine inanılan, sadece kendisine ibadet edilen, ona ait vasıflar başkasına yakıştırılmayan tek yaratıcıdır.

**Verilen tanım aşağıdaki inanma biçimlerinden hangisine aittir?**

- A) Politeizm B) Ateizm
- C) Monoteizm D) Şirk

7. Kur'an-ı Kerim'de “yaratılanların en üstünü” olarak tanımlanan varlık aşağıdakilerden hangisidir?

- A) Melek B) Cin
- C) Hayvan D) İnsan

8. “Sizi boşuna yarattığımızı ve bize tekrar döndürülemeyeceğinizi mi sandınız?”  
(Mü'minûn suresi, 115. ayet)

**Bu ayette aşağıdakilerden hangisine değinilmemiştir?**

- A) Yaratılışın bir amacı olduğuna
- B) Ahiret hayatının gerçekliğine
- C) Ahiret hayatının ebediliğine
- D) İnsanı Allah'ın yarattığına

9. Cahiliye dönemi insanların çoğunun müşrik olarak adlandırılmasının nedeni aşağıdakilerden hangisidir?

- A) Putların Allah'a ortak koşulması
- B) Güçlü ve zenginlerin zayıfları ezmesi
- C) Okuma yazma bilenlerin sayıca az olması
- D) Kız çocuklarının diri diri toprağa gömülmesi

10. Hz. Peygamber'in, Hz. Mariye'den olan çocuğu hangisidir?

- A) Abdullah B) Rukiye
- C) İbrahim D) Zeynep

11. “Hira Mağarası”nın İslam tarihindeki önemi daha çok aşağıdakilerin hangisinden kaynaklanmaktadır?

- A) Mekke şehrinde yer alması
- B) İlk vahyin burada nazil olması
- C) Şehrin karmaşasından uzak ve sakin bir yer olması
- D) Hz. Muhammed (sav.)'in inzivaya çekildiği yer olması

12. Aşağıdakilerden hangisi Hz. Muhammed (sav.)'in insani yönü ile ilgili değildir?

- A) Ticaretle uğraşması
- B) Çocuk sahibi olması
- C) Allah'tan vahiy alması
- D) Yetim olarak doğması

13. Aşağıdakilerden hangisi Hz. Peygamber'in toplumsal barışa yönelik doğrudan attığı adımlardan biri değildir?

- A) Hudeybiye barış antlaşmasını imzalaması
- B) Muhacir-Ensar kardeşliğini tesis etmesi
- C) Evs ve Hazreç kabilelerini barıştırması
- D) Mescid-i Nebi'yi inşa ettirmesi

14. Aşağıdakilerden hangisi Medine'ye hicretin sonuçlarından biri değildir?

- A) İslam'a davetin açıktan yapılmasına başlanması
- B) Müslümanların ibadetlerini özgürce yerine getirmesi
- C) Muhacirlerin, müşriklerin baskı ve zulümlerinden kurtulması
- D) İslamiyet'in Medine ve çevresinde hızla yayılmaya başlaması

15. İslam tarihi ile ilgili aşağıda verilen bilgilerden hangisi yanlıştır?

- A) İlk Cuma namazı Ranuna Vadisi'nde kılınmıştır.
- B) Müşriklerle ilk savaş Uhud'da yapılmıştır.
- C) İlk Mescid Küba köyünde inşa edilmiştir.
- D) İlk hicret Habeşistan'a yapılmıştır.

16. “Şüphesiz o Zikr'i biz indirdik biz! Onun koruyucusu da elbette biziz.”  
(Hicr suresi, 9. ayet)

**Bu ayette “Zikr” kelimesi ile aşağıdakilerden hangisi kastedilmiştir?**

- A) Hadisler B) Melekler
- C) Kıyamet D) Kur'an-ı Kerim

## 1. OTURUM

17. Aşağıdakilerden hangisi Kur'an-ı Kerim'in ana konularından biri değildir?

- A) İnanç B) İbadet  
C) Ahlak D) Hadis

18. Kur'an-ı Kerim'in ilk müfessiri aşağıdakilerden hangisidir?

- A) Hz. Osman  
B) Hz. Muhammed (sav.)  
C) Zeyd b. Sabit  
D) Hz. Ebu Bekir

19. Kur'an-ı Kerim'i baştan sona okuyarak bitirmek anlamına gelen kavram aşağıdakilerden hangisidir?

- A) Hatim B) Hafız  
C) Tecvit D) Meal

20. Kur'an-ı Kerim kaç sureden meydana gelmektedir?

- A) 6666 B) 114  
C) 30 D) 20

(112) DİN KÜL. AHL. BİL. – 2

1. "...Peygamber size ne verdiyse onu alın, size ne yasakladıysa ondan sakının..." ( Haşr suresi, 7. ayet)

**Bu ayette insanların öncelikle hangi değere göre yaşamaları tavsiye edilmiştir?**

- A) Dini B) Örfi  
C) Milli D) Ahlaki

2. Aşağıdakilerden hangisi milletimizi bir arada tutan değerlerden biri değildir?

- A) Vatan sevgisi  
B) Doğa sevgisi  
C) Ülkü birliği  
D) İnanç birliği

3. Aşağıdakilerden hangisi "doğuştan kazanılan değerler" in ortak özelliklerinden biri değildir?

- A) Evrenseldirler.  
B) Birleştiricidirler.  
C) Genel kabul görmüşlerdir.  
D) Kültürden kültüre değişiklik gösterirler.

4. İslam, aile kurmayı teşvik etmiş ve neslin korunması için bazı tedbirler almıştır.

**Bu cümle İslam dininin korunmasını istediği beş temel ilkenin hangisi ile ilişkilidir?**

- A) Canın korunması  
B) Malın korunması  
C) Aklın korunması  
D) Namusun korunması

5. Örf ve âdetler ile ilgili aşağıdaki ifadelerden hangisi doğrudur?

- A) Örf ve âdetler yazılı olmayan kurallardır.  
B) Örf ve âdetlerin oluşumunda dinin etkisi yoktur.  
C) Hiçbir örf ve adet ahlaki değerlere ters düşmez.  
D) İslam her türlü örf ve âdetin yaşatılmasını tavsiye etmiştir.

6. İnsanın kendine özgü olan, az veya çok her zaman gözlenebilen davranış ve alışkanlıklarına ne denir?

- A) Örf B) Âdet  
C) Kişilik D) Değer

7. Aşağıdaki ifadelerden hangisi sanatsal değere örnek oluşturur?

- A) Süslemeler camilere ayrı bir güzellik katmaktadır.  
B) Sırları açıklamak kötü bir davranıştır.  
C) Yalan söylemek günahdır.  
D) Rüşvet haramdır.

8. "Kim zerre kadar hayır yapmışsa onun mükâfatını görür. Kim de zerre kadar kötülük işlemişse onun cezasını görür."  
(Zilzâl suresi, 7-8. ayetler)

**Bu ayetlerden aşağıdaki sonuçlardan hangisi çıkarılamaz?**

- A) Kişi yaptığından sorumludur.  
B) Şirk koşturmak büyük günahdır.  
C) İyilik yapmak ibadettir.  
D) İnsan irade sahibidir.

9. Laiklik ile ilgili aşağıdaki bilgilerden hangisi doğrudur?

- A) Laiklik ilk olarak İslam'ın yaygın olduğu Arap ülkelerinde ortaya çıkmıştır.  
B) Batı'da laiklik ilkesinin kabul edilmesi kilisenin etkisini artırmıştır.  
C) Laiklik, devletlerin dini kurumlar üzerindeki baskısına tepki olarak doğmuştur.  
D) Batı ülkelerinde kilisenin baskıcı tutumu laik devlet anlayışının kabul edilmesinde etkili olmuştur.

10. • Horasan'da doğmuş, Nevşehir'de vefat etmiştir.  
• Asıl adı Seyyid Muhammed bin İbrahim Ata'dır.  
• Şiirlerinin toplandığı Makâlât adlı Arapça bir eseri vardır.

**Hakkında bilgi verilen tasavvuf âlimi kimdir?**

- A) Mevlana  
B) Yunus Emre  
C) Hacı Bektaş Veli  
D) Hacı Bayram Veli

11. Aşağıdakilerden hangisi laiklik ilkesi ile bağdaşmaz?

- A) Dinde ruhbanlık anlayışının oluşmasını sağlamak  
B) İnsanların dini eğitim almalarına izin vermek  
C) Kişinin manevi hayatına müdahale etmemek  
D) Dinin istismar edilmesine engel olmak

## 1. OTURUM

12. Aşağıdaki ayetlerden hangisi “dinin menfaat aracı olarak kullanılmasını engelleme” ile ilişkilendirilebilir?

- A) “Şüphesiz, Allah katında din İslam’dır...”  
(Âl-i İmran suresi, 19. ayet)
- B) “Dinde zorlama yoktur. Doğruluk sapıklıktan iyice ayrılmıştır...”  
(Bakara suresi, 256. ayet)
- C) “...Size nimetimi tamamladım ve sizin için din olarak İslam’ı seçtim...”  
(Mâide suresi, 3. ayet)
- D) “...Ayetlerimi az bir karşılığa değiştirmeyin ve bana karşı gelmekten sakının.”  
(Bakara suresi, 41. ayet)

13. Türklerin Müslüman Araplarla ilk karşılaşmaları aşağıdaki halifelerden hangisi döneminde olmuştur?

- A) Hz. Ebu Bekir
- B) Hz. Ömer
- C) Hz. Osman
- D) Hz. Ali

14. Aşağıdaki âlimlerden hangisi Ebû Hanife’nin talebelerinden biri değildir?

- A) İmam Muhammed
- B) İmam Ebû Yusuf
- C) İmam Cafer-i Sadık
- D) İmam Züfer

15. Aşağıdaki eserlerden hangisi İmam Maturidi’ye aittir?

- A) el-Âlim ve’l-Müteallim
- B) Te’vilatu’l- Kur’an
- C) Divan-ı Hikmet
- D) Mesnevi

16. İmam Eş’ari aşağıdaki alanların hangisinde daha çok tanınmıştır?

- A) Siyer
- B) Hadis
- C) Kelam
- D) Fıkıh

17. Ülkemizde aşağıdaki olaylardan hangisi diğerlerinden sonra gerçekleşmiştir?

- A) Halifeliğin kaldırılması
- B) Saltanatın kaldırılması
- C) Cumhuriyet’in ilan edilmesi
- D) Laiklik ilkesinin Anayasa’ya girmesi

18. Yunus Emre’nin, dergâhında kırk yıl hizmet ettiği ve eğitim aldığı hocası kimdir?

- A) Ahi Evran
- B) Şems-i Tebrizi
- C) Tapduk Emre
- D) Şeyh Yusuf Hemadani

19. Kufi, sülüs ve nesih gibi çeşitleri bulunan sanat dalı hangisidir?

- A) Hat
- B) Ebru
- C) Tezhip
- D) Minyatür

20. “Hak Dini Kur’an Dili” adlı tefsir eserinin müellifi kimdir?

- A) Konyalı Mehmet Vehbi Efendi
- B) Elmalılı Muhammed Hamdi Yazır
- C) Süleyman Ateş
- D) Fahreddin Râzi

### (115) DİN KÜL. AHL. BİL. – 5

1. “Her insanın ne zaman doğacağını Yüce Allah’ın ezelde takdir etmesi ve zamanı geldiğinde de, Allah’ın takdirine uygun olarak kişinin dünyaya gelmesi” hangi kavramlar ile ifade edilir?

- A) Hayır-Şer
- B) Kader-Kaza
- C) Ecel-Ölüm
- D) İrade-Sorumluluk

2. Aşağıdakilerden hangisi kişinin sorumlu tutulacağı konulardan biri değildir?

- A) Haksız yere cana kıymak
- B) Ana-babaya isyan etmek
- C) Devlet malını zimmetine geçirmek
- D) Müslüman olmayan ana babadan dünyaya gelmek

3. İşlediği suçtan dolayı cezaya çarptırılan birisinin aşağıdaki ifadelerinden hangisi “kader” inancına uygundur?

- A) Kendim ettim kendim buldum
- B) Kader mahkûmuyum
- C) Alın yazım böyle imiş
- D) Kaderim kara yazılmış

4. Aşağıdakilerden hangisi rızık kazanma konusunda İslam anlayışına uygun değildir?

- A) Elde etmek için her yol mübah görülmeli
- B) Allah’ın koyduğu sınırlara riayet edilmeli
- C) Gayret ve sebat gösterilmeli
- D) Çalışarak elde edilmeli

5. Aşağıdaki ayetlerin hangisi “ömür ve ecel” ile ilgili değildir?

- A) “Biz, gökleri, yeri ve ikisi arasındakileri ancak hak ile ve belirli bir süre için yarattık...”  
(Ahkâf suresi, 3. ayet)
- B) “Bu (Kur’an) da bizim indirdiğimiz bereket kaynağı bir kitaptır. Artık ona uyun ve Allah’a karşı gelmekten sakının ki size merhamet edilsin.”  
(En’âm suresi, 155. ayet)
- C) “Yeryüzünde bulunan her canlı yok olacaktır.”  
(Rahmân suresi, 26. ayet)
- D) “Hiçbir ümmet kendisi için belirlenmiş sürenin bitimini öne alamayacağı gibi, erteleyemez de.”  
(Hicr suresi, 5. ayet)

6. Tevekkül ile ilgili aşağıda verilenlerden hangisi yanlıştır?

- A) Tevekkül çalışmaya ve ilerlemeye engel değildir.
- B) Tevekkül eden kimse gayretinin sonucunu Allah’tan beklemelidir.
- C) Üzerine düşeni yapmadan “Kaderimde ne varsa o olur.” demek yeterlidir.
- D) Allah ancak elinden gelen gayreti gösterene ve çalışana yardım eder.

## 1. OTURUM

7. Yapılan bir ibadetin amacına ulaşabilmesi için aşağıdakilerden hangisi gerekli değildir?

- A) İsteklilik
- B) Samimiyet
- C) Gösteriştenden uzak olma
- D) Açıktan yapmak

8. “Ey iman edenler! Allah’a ve ahiret gününe inanmadığı halde insanlara gösteriş olsun diye malını harcayan kimse gibi, sadakalarınızı başa kakmak ve gönül kırmak suretiyle boşa çıkarmayın...” (Bakara suresi, 264. ayet)

**Bu ayette aşağıdakilerden hangisi vurgulanmıştır?**

- A) İhlâs ve samimiyet
- B) İbadetlerde devamlılık
- C) Allah’a ve ahirete iman
- D) Sadakaların kime verileceği

9. Aşağıdakilerden hangisi İslam’ın ibadetlerde sağladığı kolaylıklara örnek oluşturmaz?

- A) Orucunu mazeretsiz bozanların kefareti orucu tutmaları
- B) Hasta veya yolcu olanların ramazan orucunu erteleyebilmeleri
- C) Suyun bulunmadığı ortamlarda teyemmüm ile abdest alınabilmesi
- D) Ayakta duramayacak kadar hasta veya yaşlı olanların namazlarını oturarak kılabilmeleri

10. Aşağıdakilerden hangisi ibadetlerin sonuçlarından biri değildir?

- A) Kötülüklerden alıkoyması
- B) Sosyalleşmeyi zayıflatması
- C) İç huzurunu güçlendirmesi
- D) Güven duygusunu geliştirmesi

11. “Bir şey yaratmak istediği zaman O’nun yaptığı ‘Ol’ demekten ibarettir. Hemen oluverir.” (Yasin suresi, 82. ayet)

**Bu ayette aşağıdakilerden hangisi vurgulanmaktadır?**

- A) Cüzi irade
- B) Külli irade
- C) Tevekkül
- D) Hayır ve şer

12. Aşağıdaki ibadetlerden hangileri sosyal yardımlaşma ve dayanışma konusunda etkin bir fonksiyona sahiptir?

- A) Hac ve umre
- B) Namaz ve oruç
- C) Zekât ve sadaka
- D) Mukabele ve İtikaf

13. Aşağıdakilerden hangisi Hz. Peygamber’in öncelikle örnek almamız gereken yönlerinden biri değildir?

- A) Adaleti
- B) Dürüstlüğü
- C) Merhameti
- D) Kişisel tercihleri

14. Aşağıdakilerden hangisi Kur’an-ı Kerim’de belirtilen örnek insanların özelliklerinden biri değildir?

- A) İffetli olmak
- B) Emanete ihanet etmemek
- C) Boş işlerden yüz çevirmek
- D) Hayır yapmada acele etmemek

15. “Andolsun ki, Resûlullah, sizin için; Allah’a ve ahiret gününe kavuşmayı umanlar ve Allah’ı çok zikredenler için güzel bir örnektir.” (Ahzâb suresi, 21 ayet)

**Bu ayette vurgulanan konu aşağıdakilerden hangisidir?**

- A) Allah’ın çok zikredilmesi
- B) Ahiret gününe inanılması
- C) Peygamberin model alınması
- D) İbadetlerde ihlasın yakalanması

16. “Güzel ahlakı, dürüstlüğü ve herkes tarafından güven duyulan bir kişi olması dolayısıyla Hz. Peygamber’e ---- deniliyordu.

**Bu cümlede boş bırakılan yere aşağıdakilerden hangisi getirilmelidir?**

- A) Muhammed’ül Emin
- B) Hatemül Enbiya
- C) Seyyidül Enbiya
- D) Fahri Kâinat

17. Aşağıdakilerden hangisi kültürümüzde Hz. Peygamber’e duyulan sevgiyi gösteren örneklerden biri değildir?

- A) Çocuklara Fatmagül, Ayşegül gibi “gül” takılı isimlerin verilmesi
- B) Camilerde ve diğer mimari eserlerde gül motiflerinin kullanılması
- C) Birçok kutlama ve törenlerde Mevlit okutulması
- D) Ölümlerin arkasından hatim indirilmesi

18. “Ehlibeyt” terimi neyi ifade eder?

- A) Hz. Peygamber’in ailesini
- B) Hz. Peygamber’in ashabını
- C) Hz. Peygamber’in kabilesini
- D) Hz. Peygamber’in akrabalarını

19. Aşağıdakilerden hangisi ameli (fıkhi) mezheplerden biridir?

- A) Eşarilik
- B) Malikilik
- C) Haricilik
- D) Maturidilik

20. İslam düşünce ekolleri aşağıdaki konuların hangisinde fikir ayrılığına düşmüşlerdir?

- A) Allah’ın birliği
- B) Ahiretin varlığı
- C) Halifenin kim olacağı
- D) Hz. Muhammed’in (sav.) peygamberliği

### (121) FELSEFE – 1

1. I- Öznel bir bilgidir.  
II- İlerleme özelliğine sahiptir.  
III- Genel geçerdir.

**Yukarıdakilerden hangileri bilimsel bilginin özelliklerindedir?**

- A) I ve II
- B) II ve III
- C) I ve III
- D) I, II ve III

2. Doğa bilimleri aşağıdakilerden hangisinde bir arada verilmiştir?

- A) Kimya-biyoloji
- B) Mantık-biyoloji
- C) Kimya-Matematik
- D) Mantık-Matematik

## 1. OTURUM

3. Aşağıdakilerden hangisi din ve felsefenin ortak özelliğidir?

- A) Şüphe etmeyi gerektirmeleri
- B) Güzeli bulmayı amaç edinmeleri
- C) Konularına eleştirel yaklaşımları
- D) İnsanı, evreni anlamaya ve açıklamaya çalışmaları

4. Felsefenin ruh, öteki dünya, tanrı, ölümsüzlük gibi ilk ve son sorunlarıyla uğraşan alanı aşağıdakilerden hangisidir?

- A) Etik
- B) Estetik
- C) Metafizik
- D) Epistemoloji

5. Doğa filozoflarından Thales, evrenin ana maddesi su olduğunu söyleyerek, evrene ilişkin ilk defa dinsel ve mitolojik olmayan bir açıklamada bulunmuştur. Bu açıklamayla doğa bilimlerinin temelini atmış ve bu süreç, felsefe tarihinde "doğa felsefesi" olarak adlandırılmıştır.

**Bu bilgiye dayanarak aşağıdaki yargılardan hangisine ulaşamaz?**

- A) Bilimlerin felsefenin yerini aldığına
- B) Felsefenin bilimlere katkıda bulunduğuna
- C) İnsanların evrene dair bilgileri merak ettiğine
- D) Önce yapılmış açıklamaların dinsel ve mitolojik nitelikli olduğuna

6. Aşağıdakilerden hangisi bilgi kuramının temel sorularındandır?

- A) Varlığın ana maddesi nedir?
- B) Evren nasıl oluşmuştur?
- C) İdeal bir düzen var mıdır?
- D) Bilgi nedir?

7. "Bilgi duyumla başlar, ama bilgi duyum değildir. Akıl işe karışmazsa, bilim ve felsefe meydana gelmez."

**Aşağıdaki yargılardan hangisi Aristoteles'in görüşlerine uygunluk içermez?**

- A) Bilim ve felsefe akla dayalı değildir
- B) Bilginin malzemesini duyumlar verir.
- C) Akıl ve duyumlar bilgiyi oluşturur.
- D) Bilgiye ulaşmada duyumlar yeterli değildir.

8. Bilgi, varlık ve değer var olduğundan şüphe eden, bunların bilgisine kuşkuyla bakan, felsefi akım aşağıdakilerden hangisidir?

- A) Empirizm
- B) Pozitivizm
- C) Septisizm
- D) Fenomenoloji

9. Deprem gibi doğal bir felaketin Tanrı'nın insanları cezalandırmasının sonucu olduğunun düşünülmesi, Comte'un üç hal yasasının hangi evresine örnek oluşturur?

- A) Teolojik evre
- B) Pozitif evre
- C) Metafizik evre
- D) Bilimsel düşünme evresi

10. Bir düşüncenin ancak faydalı sonuçlar verirse doğru olduğunu savunan John Dewey'nin, bilgi felsefesinde hangi akımın temsilcisi olduğu söylenebilir?

- A) Pragmatizm
- B) Kritisizm
- C) Materyalizm
- D) Analitik felsefe

11. Ortaçağ Avrupa'sında dinsel düşüncenin ön plana çıkmasıyla bilim ve felsefe ancak dinsel otoritenin izin verdiği kadar gelişebilmiş, hatta durma noktasına gelmiştir. Buna karşın, İslam dünyasında 8.yy'da Harun Reşit tarafından kurulan "Beytül Hikme" adlı çeviri ve araştırma merkezinde Eski Yunan düşüncelerine ait eserler Arapçaya çevrilmiş; Halife Memun'un isteğiyle ise Harezmi, yer ve gökyüzü haritalarından oluşan bir atlas hazırlamıştır.

**Parçaya göre bu dönemle ilgili aşağıdaki yargılardan hangisine ulaşabiliriz?**

- A) İslam dünyası Avrupa'nın gerisinde kalmıştır.
- B) İslam dini ve felsefe çatışma içine girmiştir.
- C) İslam önderleri bilime ve felsefeye önem vermişlerdir.
- D) İslam dünyasında bilime verilen önem felsefeye verilmiştir.

12. Aşağıdakilerden hangisi bilim felsefesinin temel sorularından değildir?

- A) Bilim nedir?
- B) Varlığın ana maddesi nedir?
- C) Bilimin değeri nedir?
- D) Bilimsel yöntem nedir?

13. Aşağıdakilerden hangisi bilimin bazı aşamalardan geçerek ilerlediğini savunan Kuhn'a göre bilimin geçtiği bu aşamalardan değildir?

- A) Bilim öncesi dönem
- B) Devrim dönemi
- C) Metafizik dönem
- D) Olağan bilim dönemi

14. "Ön deyi,olgular arası ilişkilerden ya da bilimsel açıklamalardan yararlanarak henüz olmamış bir olguyu önceden kestirmez."

**Bu tanıma göre aşağıdakilerden hangisi bir ön deyidir?**

- A) Suyun 100 derecede kaynadığının söylenmesi
- B) Cisimlerin boşlukta, aynı hızda yere düştüğünün söylenmesi
- C) Yağmurun kara dönüştüğünün gözlemlenmesi
- D) Thales'in, ay tutulması olayını önceden haber vermesi

15. Aşağıdakilerden hangisi bilimi, ürün olarak benimseyen yaklaşımın temsilcilerinden değildir?

- A) Reichenbach
- B) Carnap
- C) Toulmin
- D) Hempel

16. Aşağıdakilerden hangisi varlık felsefesinin "Varlık nedir?" sorusuna verdiği cevaplardan değildir?

- A) Varlık oluşur.
- B) Varlık ideadır.
- C) Varlık maddedir.
- D) Varlık güzel olandır.

## 1. OTURUM

17. Türk İslam filozofu olan Farabi'nin varlık kuramındaki var olmak için başka bir varlığa ihtiyaç duymayan "Vacibü'l Vücûd" kavramı aşağıdakilerden hangisini ifade eder?

- A) İnsan B) Tanrı  
C) Doğa D) Evren

18. "Hiçbir şey var değildir, var olsa bile bilinemez; bilinse bile başkalarına aktarılamaz."

Aşağıdaki ifadelerden hangisi Gorgias'ın bu görüşünü destekler?

- A) Varlık vardır.  
B) Varlığı yaratan düşüncedir.  
C) Var olmak algılanmış olmaktır.  
D) Varlığın bilgisine ulaşılamaz.

19. "İki kez yıkanamazsınız aynı ırmağa. Üzerinde akan şimdi yeni sulardır" sözünü evrende sürekli bir değişimin olduğunu savunan düşünür aşağıdakilerden hangisidir?

- A) Farabi B) Heraklitos  
C) Descartes D) La Mettrie

20. Var olan her şeyi düşünceye bağlayan, insan düşüncesinden bağımsız bir nesnelere dünyasının olmadığını savunan felsefi öğretiyi aşağıdakilerden hangisidir?

- A) İdealizm  
B) Düalizm  
C) Fenomenoloji  
D) Materyalizm

### (123) SEÇMELİ FELSEFE – 1

1. Felsefenin sözcük anlamı aşağıdakilerden hangisidir?

- A) Bilgelik  
B) Akılcılık  
C) Düşüncelilik  
D) Bilgelik Sevgisi

2. Aşağıdakilerden hangisi felsefenin işlevlerinden değildir?

- A) İnsanın inanma ihtiyacını karşılar.  
B) Bilgiyi üretmeye yardımcı olur.  
C) İnsana doğru düşünmeyi öğretir.  
D) İnsanın bilinçlenmesine yardımcı olur.

3. • Aneximenes'e göre evrenin ana maddesi hava, Thales'e göre ise sudur.  
• Whitehead'a göre evrende sürekli bir değişim vardır; Parmenides'e göre ise evrende değişim yoktur.

Bu bilgilere dayanarak aşağıdaki yargılardan hangisine ulaşılabılır?

- A) Filozofların hazır bilgilerle yetindiğine  
B) Filozofların aynı konuda farklı düşünebildiğine  
C) Felsefe bilgisine deney ve gözlemle ulaşıldığına  
D) Filozofların düşüncelerini zamanla değiştirebildiğine

4. Teknik gibi bu alanda da, doğada olmayan bir şey üretilir. Ancak teknikte amaç, insan hayatını kolaylaştırmak iken, bu alanın amacı, güzeli yakalamak ve estetik hazza ulaşmaktır.

Yukarıda teknik ile karşılaştırması verilen alan aşağıdakilerden hangisidir?

- A) Din B) Sanat  
C) Bilim D) Metafizik

5. I- Kesin değildir.  
II- Düzensiz, yöntemsiz bir bilgidir.  
III- Kişisel deneyimlere dayanır.

Yukarıda verilen özelliklerden hangileri gündelik bilgiye aittir?

- A) I ve II B) I ve III  
C) II ve III D) I, II ve III

6. Aşağıdakilerden hangisi insan bilimlerinden değildir?

- A) Psikoloji B) Biyoloji  
C) Tarih D) Sosyoloji

7. "Kötü, Bilgi, Obje, Varlık"

Yukarıdakilerden hangileri bilgi kuramının temel kavramlarından?

- A) Varlık-Kötü B) Bilgi-Kötü  
C) Bilgi-Obje D) Varlık-Obje

8. 'Kar beyazdır' önermesi doğru olarak nitelendirilirken, 'kömür beyazdır' önermesi yanlış olarak nitelendirilir.

Bu örneklere göre bir önermenin doğru olmasının ölçütü aşağıdakilerden hangisidir?

- A) Önermenin anlamsız olması  
B) Öznenin dış dünyada var olması  
C) Özne ile yüklem arasında benzerlik olması  
D) Gerçekte var olan bir şeyi olduğu gibi yansıtması

9. Locke'a göre, doğuştan aklımızda bir takım bilgiler olsaydı, cahil ve budala olarak gördüğümüz kişilerin de akıl ilkeleri, matematik kavramlar ve Tanrı hakkında bilgi sahibi olması gerekirdi.

Locke bu görüşüyle hangi akımı eleştirmektedir?

- A) Empirizm  
B) Rasyonalizm  
C) Fenomenoloji  
D) Pozitivizm

10. Sokrates'e göre, öğretmen öğrencisine hiçbir şey öğretmez. Ancak onun aklında var olan bilgileri gün ışığına çıkarır.

Bu bilgiye göre Sokrates'in aşağıdaki görüşlerden hangisini savunduğu söylenebilir?

- A) Doğru bilgiye deneyle ulaşılır.  
B) Bilgiler aklımızda doğuştan vardır.  
C) Doğru bilgiye ulaşmak mümkün değildir.  
D) Doğru bilgiye sezgilerimiz yoluyla ulaşabiliriz.



## 1. OTURUM

(132) TARİH – 2

11. Aşağıdaki filozoflardan hangisi diyalektik yöntemi kullanmıştır?

- A) Hegel B) Platon  
C) Hume D) Farabi

12. “Bilim etkinliktir, bilim üründür.” türünden cevaplar bilim felsefesinin hangi sorusuna verilmiş olabilir?

- A) Bilim nedir?  
B) Bilimin değeri nedir?  
C) Bilimsel yöntem nedir?  
D) Bilimin temel özellikleri nelerdir?

13. Bilimsel yöntemin son aşaması aşağıdakilerden hangisidir?

- A) Gözlem yapılması  
B) Yasalara ulaşılması  
C) Olguların saptanması  
D) Deney yapılması

14. Klasik görüş taraftarlarına göre, bilimler birbirine indirgenebilir. Bu görüşe karşı çıkan bilim adamlarına göre ise, bilimler birbirleriyle ilişki içinde olabilir, ancak birbirine indirgenemez.

Aşağıdakilerden hangisi bu karşı çıkışın gerekçesi olabilir?

- A) Bilimsel faaliyetlerin insandan bağımsız olması  
B) Bilimlerin gerçekliği açıklama-  
da yeterli olmaması  
C) Bilimlerin birbirleriyle ilişki içine girmemesi gerektiği  
D) Gerçekliğin farklı boyutlarının farklı bilimlerce açıklanabileceği

15. Fizik ve kimya alanındaki gelişmeler atomun bulunmasını sağlamıştır. Atom enerji üretiminde kullanılabilirdiği gibi, atom bombası yapımında da kullanılabilir.

Burada vurgulanan düşünce aşağıdakilerden hangisidir?

- A) Bilimin değersiz olduğu  
B) Bilimsel araştırmalara son verilmesi gerektiği  
C) Bilimsel gelişmelerin insanlığa hep faydalı olduğu  
D) Bilimin insanlığın yararına olduğu gibi zararına da kullanılabildiği

16. Aşağıdakilerden hangisi felsefenin varlığa bakışını yansıtmaz?

- A) Varlığa eleştirel yaklaşması  
B) Varlığı bütün olarak ele alması  
C) Varlığı vahiy yoluyla açıklaması  
D) Varlığı akılla temellendirmeye çalışması

17. Platon'un ideal kuramıyla ilgili verilen bilgilerden hangisi yanlıştır?

- A) İdealar zamanla yok olacaktır.  
B) İdealar dünyası ezeli ve ebedidir.  
C) Gerçekte var olan varlıklar idealardır.  
D) Birbirinden farklı iki dünya vardır.

18. Doğada nesnel gerçekliği olmayan, duyuyla algılanamayan, sadece düşüncede var olan varlıklara “düşünülen (ideal) varlıklar” denir.

Bu tanıma göre aşağıdakilerden hangisi ideal varlıktır?

- A) Su B) Toprak  
C) Sayılar D) Güneş

19. Aşağıdakilerden hangisi “Varlığın ana maddesi nedir?” sorusunu atom diye cevaplayarak, her şeyin atomlardan meydana geldiğini savunan ilk çağ düşünürüdür?

- A) Sokrates B) T. Hobbes  
C) Demokritos D) Anaximandros

20. Descartes'a göre, yer kaplayan ve düşünen olmak üzere iki töz vardır. Madde yer kaplar ama düşünemez, ruh ise düşünür ama yer kaplayamaz.

Buna göre, Descartes'ın varlık görüşü hakkında aşağıdakilerden hangisi söylenebilir?

- A) Varlığın ruh ve maddeden oluştuğu  
B) Varlığın sezgiyle kavranabileceği  
C) Varlığın sürekli değişim halinde olduğu  
D) Varlığın salt düşünceden ibaret olduğu

1. İslamiyet öncesi dönemde Kızıldeniz sahili ile Aden Körfezi'ne kadar olan sahaya, aşağıdaki krallıklardan hangisi hâkimdi?

- A) Asur B) Lidya  
C) Urartu D) Habeş

2. “Çölde yaşayan Araplara - - - - denirdi.”

Verilen cümlede boş bırakılan yere, aşağıdakilerden hangisi getirilmelidir?

- A) Havari B) Medeni  
C) Bedevi D) Mevali

3. Hz. Muhammed'in son askerî seferi, aşağıdakilerden hangisidir?

- A) Tebük B) Taif  
C) Mute D) Hayber

4. İslam Devleti'nin ilk düzenli ordusu, aşağıdaki hangi halife döneminde kurulmuştur?

- A) Hz. Ebu Bekir  
B) Hz. Osman  
C) Hz. Ömer  
D) Hz. Ali

5. Aşağıdaki yerlerden hangisi Dört Halife Dönemi'nde fethe dilmemiştir?

- A) Mısır B) Suriye  
C) İspanya D) Azerbaycan

6. Emevilerin aşağıdaki uygulamalarından özellikle hangisi, dönemlerinde İslam dininin yayılmasına olumsuz etkisi olmuştur?

- A) Halifelerinin gösterişe olan düşkünlüğü  
B) Başka milletlere karşı takındıkları tutum  
C) Hilafeti saltanata dönüştürmeleri  
D) Kerbela Olayı'na neden olmaları

## 1. OTURUM

7. Hendek Savaşı'nın fikir babası olarak kabul edebileceğimiz sahabe, aşağıdakilerden hangisidir?

- A) Ebu Süfyan
- B) Selman-ı Farisi
- C) Yusuf Has Hacip
- D) Muhammed bin Yusuf

8. İspanya'da hüküm sürmüş olan devletler, aşağıdakilerin hangisinde birlikte verilmiştir?

- A) Beni Ahmer – Abbasi
- B) Karahanlı – Gazneli
- C) Tolunoğulları – İhşidoğulları
- D) Endülüs Emevi – Beni Ahmer

9. Dinî konuları akıl ve mantık yoluyla ispat eden İslamî bilim dalı, aşağıdakilerden hangisidir?

- A) Hadis
- B) Fıkıh
- C) Tefsir
- D) Kelam

10. 840 – 1212 yılları arasında Orta Asya'da siyasal varlık gösteren Türk devleti, aşağıdakilerden hangisidir?

- A) Gazneliler
- B) Karahanlılar
- C) Harzemşahlar
- D) Büyük Selçuklular

11. İslam dünyasında;

- ilk hassas teraziyi kullanan,
- kumaş ve deri boyama yöntemlerini geliştiren,
- çeşitli madenlerin alaşımlarıyla yapay altın yapmaya çalışan

ünlü kimya bilgini, aşağıdakilerden hangisidir?

- A) Kindî
- B) Câbir
- C) Harezmi
- D) Mesudî

12. Büyük Selçuklu Devleti, aşağıdaki hangi hükümdarının ölümüyle Fetret Devri'ne girmiştir?

- A) Melikşah
- B) Sencer
- C) Alp Arslan
- D) Tuğrul Bey

13. Aşağıdakilerden hangisi Dandanakan Savaşı'nın sonuçlarından biri değildir?

- A) Horasan Bölgesi'nin Selçukluların eline geçmesi
- B) Selçuklu Devleti'nin resmen kurulması
- C) Gaznelilerin yıkılma sürecine girmesi
- D) Türklerin İslam dinini tanımaları

14. Büyük Selçuklu Devleti'nde sultan tarafından gelirleri maaş ve hizmet karşılığı olarak emirlere, kumandanlara ve valilere bırakılan topraklar, aşağıdaki-lerden hangisidir?

- A) Mülk
- B) Vakıf
- C) İkte
- D) Has

15. Abbasi halifesi en Nasır li-Dinillah tarafından kurulan dinî – iktisadi teşkilat, aşağıdakilerden hangisidir?

- A) Ahi
- B) Lonca
- C) Fütüvvet
- D) Tasavvuf

16. Hoca Ahmet Yesevi'nin yazdığı ve İslam'ın esaslarını Türkçe olarak öğretmeye çalıştığı eseri, aşağıdakilerden hangisidir?

- A) Kutadgu Bilig
- B) Divan-ı Hikmet
- C) Atabetü'l Hakayık
- D) Divan-ı Lügat-it Türk

17. Türkiye Selçuklu askerleri tarafından kuşatmalarda kullanılan petrol, aşağıdaki hangi Anadolu şehirlerinden çıkarılıyordu?

- A) Sivas ve Nevşehir
- B) Konya ve Aksaray
- C) Erzurum ve Antalya
- D) Sinop ve Kastamonu

18. Aşağıdakilerden hangisi III. Haçlı Seferleri'nin sonuçlarından biridir?

- A) Kudüs'ün Müslümanların elinde kalması
- B) İstanbul'da bir Latin İmparatorluğu'nun kurulması
- C) Urfa, Antakya, Şam, Sur ve Yafa'da kontlukların kurulması
- D) Türkiye Selçuklularının başkentlerini İznik'ten Konya'ya taşıması

19. Aşağıdaki Türkiye Selçuklu hükümdarlarından hangisinin döneminde Kırım'daki Suğdak limanı ele geçirilmiştir?

- A) II. Kılıç Arslan
- B) I. İzzettin Keykavus
- C) I. Alâeddin Keykubat
- D) II. Gıyaseddin Keyhüsrev

20. İslam kökenli kitap bezeme sanatı, aşağıdakilerden hangisidir?

- A) Hat
- B) Çini
- C) Kakma
- D) Tezhip

(136) TARİH – 6

1. Türklerle Müslüman Araplar arasındaki ilk ilişkiler, aşağıdaki hangi dönemde başlamıştır?

- A) Muaviye Dönemi
- B) Hz. Ömer Dönemi
- C) Hz. Osman Dönemi
- D) Harun Reşit Dönemi

2. İslam tarihinde kaç tane "Akabe Biati" vardır?

- A) 7
- B) 5
- C) 4
- D) 2

3. Aşağıdakilerden hangisi, Hz. Muhammed'in doğduğunda meydana gelen mucizevi olaylardan biri değildir?

- A) İran'daki Sava Gölü'nün kuruması
- B) İran'daki Semave Deresi'nin taşması
- C) Roma İmparatorluğu'nun parçalanması
- D) Mecusilerin bin yıldır yanan kutsal ateşlerinin sönmesi

## 1. OTURUM

4. Cahiliye Dönemi'nde Arap toplumu arasında gelişen sanat dalı, aşağıdakilerin hangisinde birlikte verilmiştir?
- A) Şiir – Hitabet  
B) Resim – Müzik  
C) Mimarlık – Bale  
D) Heykeltıraşlık – Opera
5. Hz. Muhammed Veda Haccı'nı miladi hangi yıl yapmıştır?
- A) 630 B) 632  
C) 634 D) 638
6. Mısır'daki Türk hâkimiyetinin öncüsü olan ilk Müslüman Türk devleti, aşağıdakilerden hangisidir?
- A) İhşidiler  
B) Eyyubiler  
C) Tolunoğulları  
D) Büyük Selçuklular
7. Dandanakan Savaşı'ndan sonra Büyük Selçuklu Devleti'nde "sultan" unvanını alan hükümdar, aşağıdakilerden hangisidir?
- A) Çağrı Bey B) Tuğrul Bey  
C) Arslan Bey D) Melikşah
8. Aşağıdakilerden hangisi Karahanlılar için kullanılan isimlerden değildir?
- A) İlek Hanlar  
B) Afrâsiyaboğulları  
C) Türkistan Uygur Hanları  
D) Oğuz Yabgu Devleti
9. Ceyhun Irmağı'nın Aral Gölü'ne döküldüğü delta bölgesine verilen isim, aşağıdakilerden hangisidir?
- A) Harzem  
B) Katvan  
C) Mezopotamya  
D) Maveraünnehir
10. Bâtınlığı, Selçuklu Devleti'ne taşıyan kişi, aşağıdakilerden hangisidir?
- A) Mevlâna  
B) Hasan Sabbah  
C) Humaraveyh  
D) Yusuf Kadir Han
11. Nizamiye Medresesini açarak üniversitelerin temelini atan Türk devleti, aşağıdakilerden hangisidir?
- A) Osmanlı  
B) Harzemşahlar  
C) Büyük Selçuklu  
D) Anadolu Selçuklu
12. Büyük Selçuklularda ağır siyasi suçlular ile yüce divan sıfatıyla şikâyetçi olunan devlet memurlarının yargılandığı divan, aşağıdakilerden hangisidir?
- A) Divan-ı Mezalim  
B) Divan-ı İstifa  
C) Divan-ı İşraf  
D) Divan-ı Arz
13. İlk Türk – İslam devletlerinde görülen;
- I. Hutbe okutmak,  
II. Çetr kurdurmak,  
III. Para bastırmak,  
IV. Nevbet çaldırmak
- gibi uygulamalardan hangileri hükümdarlık sembollerinden kabul edilir?
- A) Yalnız III B) II ve III  
C) I, III ve IV D) I, II, III ve IV
14. Aşağıdakilerden hangisi, Selçuklu ordu teşkilatında bulunan "Gulam Ordusu" ile ilgili doğru bir bilgidir?
- A) Gönüllülerdir.  
B) Doğrudan sultana bağlı maaşlı muhafız birlikleridir.  
C) Kendilerine ikta verilen kişilerin topladıkları vergi karşılığında yetiştirdikleri atlı askerlerdir.  
D) Selçuklulara bağlı devlet ve beyliklerin savaş zamanında gönderdikleri ücretli askerlerdir.
15. Türk - İslam edebiyatının ilk örnekleri, aşağıdaki devletlerden hangisinin döneminde ortaya çıkmaya başlamıştır?
- A) Babürlüler  
B) Gazneliler  
C) Karahanlılar  
D) Harzemşahlar
16. Türk - İslam devletlerinde hükümdarın oğulları arasında meydana gelen taht mücadelelerine sıkça rastlanırdı.
- Bu durumun temel nedeni, aşağıdakilerden hangisidir?**
- A) Çin'e komşu olunması  
B) Merkezî otoritenin güçlü olması  
C) Belirli bir veraset sisteminin olmaması  
D) Rekabetin güçlü hükümdarlar ortaya çıkarması
17. Selçuklularda şehzadelerin devlet yönetimi konusunda tecrübe kazanmaları için vilayetlere vali olarak tayin edilmeleri sırasında onlara yardımcı olmak üzere yanlarına verilen devlet görevlisi, aşağıdakilerden hangisidir?
- A) İlbaşı B) Yabgu  
C) Camedar D) Atabey
18. İlk Türk - İslam devletlerinin Bağdat, Merv, Buhara, Semerkant, Kaşgar, Hotan ve Kansu gibi kentlerinde iktisadi hayatın çok gelişmiş olmasının temel nedeni, aşağıdakilerden hangisidir?
- A) Esnaf teşkilatının gelişmiş olması  
B) İpek Yolu üzerinde bulunmaları  
C) Tarıma önem vermeleri  
D) Çin'e komşu olmaları
19. Eyyubi Devleti'nin yıkılmasıyla aynı topraklarda kurulan yeni devlet, aşağıdakilerden hangisidir?
- A) Memluk B) Fatimî  
C) Babür D) Timur

## 1. OTURUM

20. • Ünlü bilgin Uluğ Bey'in öğrencisidir.  
• Matematik ve astronomi alanlarında çalışmıştır.  
• Semerkant Gözlem Evinin müdürlüğünde bulunmuştur.  
• Fatih Sultan Mehmet Han Dönemi'nde İstanbul'a gelerek Osmanlı hizmetine girmiştir.

**Hakkında kısa bilgi verilen Türk bilgini, aşağıdakilerden hangisidir?**

- A) Farabi B) Harezmi  
C) Ali Kuşçu D) Ali Şir Nevai

### (151) COĞRAFYA – 1

1. Aşağıdakilerden hangisi hidroserferi oluşturan unsurlar arasında yer almaz?

- A) Denizler B) Okyanuslar  
C) Göller D) Magma

2. • Dağlar genellikle kırılma sonucunda oluşmuştur  
• Ova tabanları alüvyon malzeme ile kaplıdır  
• Platolar geniş alan kaplamaktadır

**İnceleme yaptığı bölge ile ilgili yukarıdaki tespitlerde bulunan bilim adamının aşağıdaki bilim dallarından hangisiyle ilgilendiği söylenebilir?**

- A) Klimatoloji B) Jeomorfoloji  
C) Hidrografiya D) Biyocoğrafya

3. Ülkelerin haritadaki yerlerini bulmak isteyen bir öğrencinin aşağıdaki dünya haritalarının hangisinden faydalanması en uygun olur?

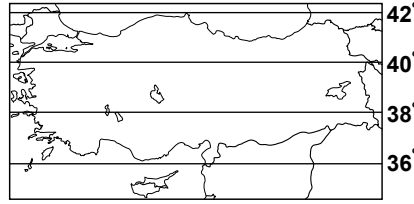
- A) Fiziki harita  
B) Beşeri harita  
C) Siyasi harita  
D) Ekonomi haritası

4. I- Enlem değerleri  
II- Boylam değerleri  
III- Yükselti değerleri

**Ülkemize çok uzak konumda bulunan Falkland Adaları'nın yerini tarif etmek gerektiğinde yukarıdakilerden hangilerinden faydalanırsınız?**

- A) Yalnız I B) Yalnız III  
C) I ve II D) II ve III

5. Paralel dairelerinin çapları Ekvatordan kutuplara doğru gidildikçe kısalır.



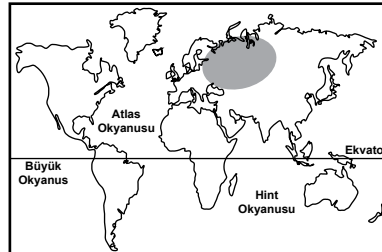
**Buna göre Türkiye üzerinden geçen paralel dairelerinden hangisinin çapı daha kısadır?**

- A) 36° Kuzey Paraleli  
B) 38° Kuzey Paraleli  
C) 40° Kuzey Paraleli  
D) 42° Kuzey Paraleli

6. Yozgat il merkezi ile Yerköy ilçe merkezi arasındaki uzaklık 1/500.000 ölçekli bir haritada 8 cm ile gösterildiğine göre bu iki merkez arasındaki gerçek uzaklık kaç km'dir?

- A) 30 B) 35 C) 40 D) 45

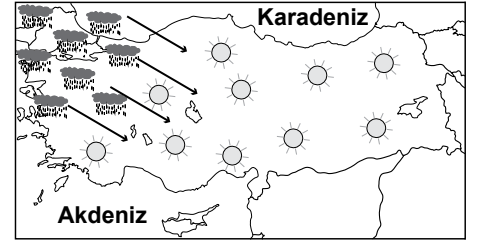
7. Kutba yakın bölgelerde sıcaklık değerlerinde mevsime bağlı yükselmeler kar ve buzullarda erimeleri artırır.



**Buna göre haritada taralı alanda kar ve buzullardaki erime olayları aşağıda verilen zaman dilimlerinden hangisinde artar?**

- A) 10 Eylül – 10 Ekim  
B) 10 Kasım – 10 Aralık  
C) 10 Ocak – 10 Şubat  
D) 10 Mayıs – 10 Haziran

8.



☁ Yağmurlu ☀ Güneşli

→ Hava hareketi

**Haritada verilen hava durumunun sunumu aşağıdakilerden hangisinde verilmiştir?**

- A) Ülkemiz balkanlar üzerinden gelen nemli ve yağışlı hava kütlelerinin etkisine girmeye başladı.  
B) Yurdun tamamında etkili olan nemli ve yağışlı hava kütlesi etkisini bugün de sürdürecektir.  
C) Yurdun tamamında hava açık ve yağışsız olmaya devam ederken sıcaklık değerleri mevsim normallerinin üzerinde seyredecek.  
D) Sibiryadan gelen ve yurdumuzu etkisi altına alan serin hava kütlesi kuzeye kayacaktır.

9. Modern Türk haritacılığının kurucusu kimdir?

- A) Abdurrahman Efendi  
B) M. Şevki Paşa  
C) Seydi Ali Reis  
D) Piri Reis

10. Aşağıdakilerden hangisi atmosferin katmanlarından değildir?

- A) Troposfer B) Mezosfer  
C) Termosfer D) Litosfer

11. Aşağıdakilerden hangisi yıl içinde sürekli esen ve yönleri değişmeyen rüzgârlardandır?

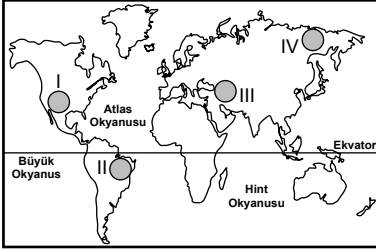
- A) Batı rüzgârları  
B) Fön rüzgârları  
C) Muson rüzgârları  
D) Sirokko rüzgârları

## 1. OTURUM

12. Yağışın oluştuğu bir yerdeki nem durumu ile ilgili aşağıdaki-lerden hangisi kesinlikle söyle-  
nebilir?

- A) Bağıl nem miktarı %100'e ulaşmıştır.
- B) Sıcaklık değerlerinde artış olmuştur.
- C) Mutlak nem miktarında artış olmuştur.
- D) Nem açığı oranında artış olmuştur.

13.



Haritada numaralandırılmış alanlardan hangilerinde yıl içinde konutların ısıtılmasına olan ihtiyaç sırasıyla en az ve en fazladır?

	<u>En az</u>	<u>En fazla</u>
A)	I	II
B)	III	I
C)	II	IV
D)	IV	III

14. Aşağıdakilerden hangisi Ülkemizde Akdeniz, Ege ve Marmara denizlerinin kıyılarındaki görülen iklimin özelliklerinden değildir?

- A) Kışları ılık geçer.
- B) Yazları sıcak geçer.
- C) Her mevsim düzenli olarak yağış alır.
- D) Kar ve don olaylarına sık rastlanmaz.

15. Aşağıdaki rüzgarlardan hangisi kara ve denizlerin farklı ısınmasına bağlı olarak gece ve gündüz yön değiştirmektedir?

- A) Mistral rüzgarı
- B) Meltem rüzgarları
- C) Alize rüzgarları
- D) Tayfun rüzgarları

16. Volkan patlaması sonucunda açığa çıkan lavların incelenmesi aşağıdaki katmanlardan hangisi hakkında daha fazla bilgi verir?

- A) Yerkabuğu
- B) Manto
- C) Dış çekirdek
- D) İç çekirdek

17. Paleozoikte oluşmaya başlamış, oluşumunu mezozoikte sürdürmüş ve neozoikte oluşumunu tamamlamıştır.

Yukarıda bir yerin hangi özelliği ile ilgili bilgiler verilmektedir?

- A) Jeolojik geçmişi
- B) Biyolojik çeşitliliği
- C) Sosyo-ekonomik yapısı
- D) Klimatolojik geçmişi

18. Ülkemizde depreme karşı hazırlıkların yapılması aşağıdakilerden hangisini azaltmaz?

- A) Can kaybını
- B) Ekonomik kaybı
- C) Deprem şiddetini
- D) Yıkım miktarını

19. Akarsu, eğimin azaldığı yerlerde aşağıdaki yer şekillerden hangisini oluşturur?

- A) Çentik vadi
- B) Dev kazanı
- C) Şelale
- D) Menderes

20. Ülkemizde buzul aşındırma ve biriktirme şekillerinin oluşumu nerelerde devam etmektedir?

- A) Deniz kıyılarına yakın yerlerde
- B) Çok yüksek yerlerde
- C) Karstik arazilerde
- D) Kurak bölgelerde

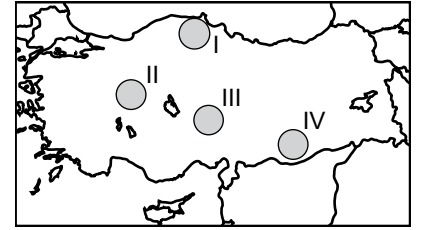
## (155) COĞRAFYA – 5

1. Son yüzyılda Dünya'da yaklaşık 30 bin bitki türünün yok olduğu gözlemlenmiştir.

Bunda aşağıdakilerden hangisinin etkisi daha azdır?

- A) Tarım alanlarının genişlemesi
- B) İklim özelliklerinin değişmesi
- C) Levhaların hareket etmesi
- D) Dünya nüfusunun artması

2. Benzer iklim ve yer şekillerine sahip olan yerlerdeki biyomlar da benzerdir.



Buna göre haritada numaralandırılarak verilen alanlardan hangisinin diğerlerinden daha farklı biyom olduğu söylenebilir?

- A) I
- B) II
- C) III
- D) IV

3. Canlıların yeryüzüne dağılışı ile ilgili aşağıdakilerden hangisi yanlıştır?

- A) Hayvan türleri sıcak iklimlerde genellikle daha fazladır
- B) Bitkilerin dağılışı hayvan türlerinin dağılışını da etkiler
- C) Bulunduğu ortamda iklim değişikliğine adapte olamayan canlı yok olur ya da göç eder
- D) Yer şekilleri canlı dağılışını etkileyen en önemli unsurdur

4. Canlı dokularını oluşturan bileşikler meydana getirmesi nedeniyle tüm yaşamın temel taşı olan atom aşağıdakilerden hangisidir?

- A) Karbon
- B) Oksijen
- C) Hidrojen
- D) Potasyum

## 1. OTURUM

5. Bir ülke için nüfusunun azalmasının ortaya çıkaracağı en önemli sorun aşağıdakilerden hangisidir?

- A) Ülke içi tüketimin azalması
- B) Nüfusta yaşlı oranının artması
- C) Tarımsal üretimin düşmesi
- D) Emlak fiyatlarının düşmesi

6. • Nüfus artış hızının en düşük olduğu ülkelerdendir  
• 1950-1975 yılları arasında nüfus patlaması yaşamıştır  
• 1985'ten sonra hazırladığı afişli kampanyalarla çok çocuk yapmayı teşvik etmiştir  
Yukarıda bazı özellikleri verilen ülke hangisidir?

- A) Fransa
- B) Nijerya
- C) Meksika
- D) Pakistan

7. Dünya'daki ilk şehir yerleşmelerinin akarsu vadilerinde ortaya çıkmasında aşağıdakilerden hangisi etkili olmuştur?

- A) Hayvanların evcilleştirilmesi
- B) Tarımın gelişmesi
- C) Madencilik başlanması
- D) Ev yapımının öğrenilmesi

8. ABD'nin en fazla nüfusa sahip şehri olup Wall Street borsası, büyük şirket merkezleri, uluslararası medya kuruluşları ile adeta dünyanın ekonomik kumanda merkezi konumundaki şehri aşağıdakilerden hangisidir?

- A) Houston
- B) New York
- C) Chicago
- D) Los Angeles

9. Sanayileşmiş ülkelerde hayvanların, yetiştirildikleri üretim alanında kesilip paketlenerek tüketim alanlarına yollanmasındaki temel amaç nedir?

- A) Ulaşım maliyetlerini düşürmek
- B) Enerji giderlerini düşürmek
- C) Hayvan hastalıklarını önlemek
- D) İş gücünü ucuzlatmak

10. Taş kömürü havzalarının yakınlıklarında çoğunlukla hangi sanayi dalı gelişir?

- A) Mobilya
- B) Elektronik
- C) Otomotiv
- D) Demir-çelik

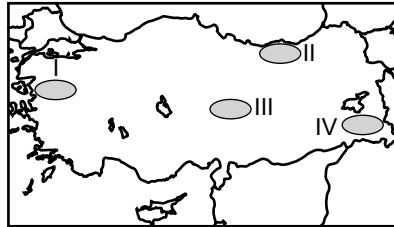
11. Bir ülkenin ekonomik zenginliği ile aşağıdakilerden hangisi arasında daha güçlü bir bağ vardır?

- A) Yüzlölçümü
- B) Nüfus miktarı
- C) Doğal kaynakları
- D) Matematik konumu

12. Türkiye'de var olan tarihi eser ve yapıtların Mısır, Yunan ve İtalya'daki eserlerden en önemli farkı aşağıdakilerden hangisidir?

- A) Türkiye'de eserlerin daha iyi korunması
- B) Türkiye'de çok farklı medeniyetlere ait kültürel izler taşınması
- C) Türkiye'ye ait bazı eserlerin yurt dışına kaçırılması
- D) Avrupa'da ortaçağa ait eserlerin çoğunlukta olması

13.



Türkiye haritasında numaralandırılarak verilen alanların hangisinde yaylalar önceleri sadece hayvancılık için kullanılırken günümüzde mesire ve turizm amacıyla da yararlanılması ön plana çıkmıştır?

- A) I
- B) II
- C) III
- D) IV

14. Tomruk üretiminde yaşanan herhangi bir aksama aşağıdaki sektörlerden hangisinin üretimini daha az etkiler?

- A) Hayvancılık
- B) Mobilya
- C) İnşaat
- D) Kağıt

15. I. Zengin su kaynaklarına sahip olması  
II. Farklı mevsimlerin etkisinde olması  
III. Petrol ve doğal gaz zengini ülkelere yakın olması  
IV. Üç kıtanın ortasında köprü olması

Türkiye'nin petrol ve doğalgaz taşımacılığında önemli konumda olmasında yukarıdakilerden hangilerinin payı vardır?

- A) I ve II
- B) I ve III
- C) II ve IV
- D) III ve IV

16. Aşağıdakilerden hangisi Türkiye'nin uyguladığı ekonomi politikalarının amaçlarından olamaz?

- A) İstihdamı artırmak
- B) İstikrarlı kalkınmayı sağlamak
- C) Dengeli gelir dağılımını sağlamak
- D) Ekonomide özel sektörün ağırlığını azaltmak

17. Makine, gübre ve kaliteli tohum kullanıldığı halde buğday üretiminin yıldan yıla önemli değişiklik gösterdiğini söyleyen Konyalı çiftçi bunun sebebi olarak aşağıdakilerden hangisini ileri sürmesi daha doğru olur?

- A) Buğdaya olan talebin değişmesini
- B) Hayvan otlatırken aşırıya gidilmesini
- C) Yağış miktarlarının yıldan yıla değişmesini
- D) Kırsal alandan şehirlere yapılan göçü

18. • Petrol ve doğal gaz aramalarında sondaj çamurlarının hazırlanmasında yoğunluk artırıcı katkı maddesi olarak kullanılır

• Sportif eşya, cam, boya, kauçuk yapımı kullanıldığı alanlardan bazılarıdır

• Alanya, Gazipaşa, Elbistan, Muş ve Eskişehir'de çıkarılır

Yukarıda bazı özellikleri verilen yer altı kaynağı nedir?

- A) Civa
- B) Fosfat
- C) Barit
- D) Antimon

## 1. OTURUM

19. Aşağıdakilerden hangisi organize sanayi bölgelerinin kuruluş amaçlarından değildir?

- A) Çevre sorunlarını önlemek
- B) Düzenli kentleşmeyi sağlamak
- C) İmalat sanayisini türlerine göre yerleştirmek
- D) Enerji ithalatını artırmak

20. Aşağıdaki doğal afetlerden hangisinin büyük çoğunluğu Doğu Anadolu Bölgesi'nde yaşanır?

- A) Sel
- B) Çığ
- C) Heyelan
- D) Orman yangını

### (157) COĞRAFYA – 7

1. Türkiye'de karasal tropikal hava kütesinin hangi yönden etkili olması ekstrem sıcaklıkların yaşanmasına neden olur?

- A) Doğu ve Kuzeydoğu
- B) Batı ve Güneybatı
- C) Kuzey ve Kuzeydoğu
- D) Güney ve Güneydoğu

2. 1556 yılında yaşanan ve 830 bin kişinin ölümü ile tarihin en fazla can kaybına neden olan deprem hangi ülkede olmuştur?

- A) Çin
- B) Japonya
- C) Endonezya
- D) Hindistan

3. I. Buzulların erimesi  
II. Kıyı çizgilerinin değişmesi  
III. Ormanların genişlemesi  
IV. Yer altı sularının artması  
Verilenlerden hangileri küresel ısınmanın olası sonuçlarıdır?

- A) Yalnız I
- B) I ve II
- C) III ve IV
- D) II, III ve IV

4. Mezopotamya'da bataklıkların kurutulması ve sulama kanallarının yapılmasına bağlı olarak tarım alanları genişlemiş, tarımsal üretim artmıştır.

**Bu gelişmelerin en önemli sonucu aşağıdakilerden hangisidir?**

- A) Yerleşik hayatın başlaması
- B) Hayvanların evcilleştirilmesi
- C) Nüfus artış hızının yükselmesi
- D) Köylerin gelişerek kentlere dönüşmesi

5. İlk medeniyetlerde kültürün gelişmesi ve birbirlerine aktarılmasına en büyük katkıyı aşağıdakilerden hangisi yapmıştır?

- A) Yazının icadı
- B) Demirin işlenmesi
- C) Kentlerin kurulması
- D) Sulu tarıma geçilmesi

6. Sanayi Devrimi'nden önce tarım ve hayvancılığın en önemli ekonomik faaliyet olması aşağıdakilerden hangisini desteklemiştir?

- A) Ulaşım araçlarının icadını
- B) Yeraltı kaynaklarının keşfedilmesini
- C) Ülkeler arasındaki sömürgecilik yarışını
- D) Ailelerin çok sayıda çocuğa sahip olma isteğini

7. Aşağıdakilerden hangisi Ruhr Bölgesinin günümüzdeki önemli gelir kaynakları arasında gösterilemez?

- A) Bilişim teknolojisi
- B) İnşaat faaliyetleri
- C) Alternatif enerji
- D) Lojistik hizmetler

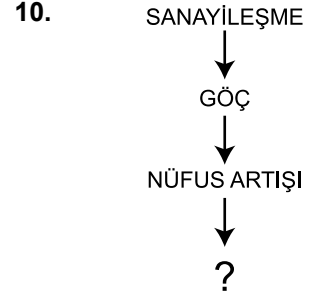
8. Fransa'nın güneyindeki Cannes şehrine şöhretini aşağıdakilerden hangisi sağlamıştır?

- A) Müzeleri
- B) Film festivali
- C) Tarım ürünleri
- D) Spor kulübü

9. Yer altı kaynaklarının keşfi küçük bir yerleşim merkezinin hızla gelişerek büyük bir şehir haline gelmesini sağlar.

**Hangi şehrimiz bu duruma örnek gösterilebilir?**

- A) Artvin
- B) Eskişehir
- C) Zonguldak
- D) Edirne



Yukarıda bir şehrin gelişim süreciyle ilgili verilen sıralamada soru işareti ile gösterilen yere aşağıdakilerden hangisi gelemez?

- A) İş gücü açığı
- B) Asayiş sorunları
- C) Gecekondulaşma
- D) Altyapı sorunları

11. Aşağıdaki ülkelerden hangisi 2014 verilerine göre Dünya'nın en fazla nüfusa sahip on ülkesi listesinde iken 2050'de bu listenin dışında kalacağı öngörülmektedir?

- A) Rusya
- B) ABD
- C) Hindistan
- D) Nijerya

12. Dünya ekonomisinin geleceği ile ilgili aşağıdakilerden hangisi söylenemez?

- A) İletişim ve ulaşım maliyetleri düşecektir
- B) Ülkelerin ekonomileri birbirini daha çok etkileyecektir
- C) Sermaye ve iş gücü büyüme- de tek belirleyici olacaktır
- D) Ekonomide ağırlığı hizmet sektörü oluşturacaktır

13. Bir ülkenin kendi sınırları içinde ve diğer ülkelerle ekonomik bağlantısını sağlayan en önemli sektör aşağıdakilerden hangisidir?

- A) Turizm
- B) Sağlık
- C) Ulaşım
- D) Eğitim



## 1. OTURUM

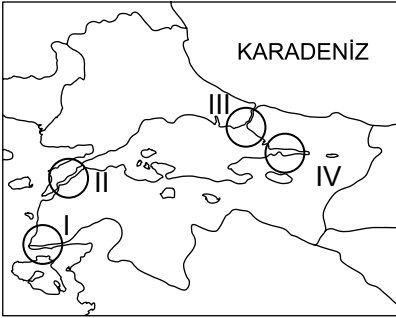
14. Ülkemizde kara ve demiryolu geçitlerinin akarsu vadilerini, çöküntü alanlarını ve plato yüzeylerini takip etmesinin sebebi nedir?

- A) Ülkemizde üç ana tipte iklimin görülmesi
- B) Nüfus yoğunluğumuzun kıyılarda artması
- C) Sanayinin kıyı şehirlerimizde yoğunlaşması
- D) Ülkemizin yüksek ve engebeli topografyaya sahip olması

15. 1 Kasım 1926'da yürürlüğe giren Kabotaj Kanunu hangi ulaşım sisteminde düzenlemeler yapmıştır?

- A) Kara yolu
- B) Demir yolu
- C) Deniz yolu
- D) Hava yolu

16.



Marmaray ulaşım projesi, haritada numaralandırılarak verilen alanların hangisinde yer almaktadır?

- A) I B) II C) III D) IV

17. I. Nüfus artışının düşmesi  
II. Ekonomik daralma  
III. Üretimin artması  
IV. Ulaşım ağının gelişmesi  
Verilenlerden hangileri bir yerde ticaretin canlanıp gelişmesine katkı yapar?

- A) I ve II B) I ve III
- C) II ve IV D) III ve IV

18. Aşağıdakilerden hangisini yapmamız turizm potansiyelimizi olumsuz etkiler?

- A) Sit alanlarına otel yapmamız
- B) Tarihi mekân ve yapıtları restore etmemiz
- C) Turizm alanında vasıflı eleman çalıştırmamız
- D) Eşsiz plajlarımızı kirlilikten korumamız

19. 2014 yılı turizm gelirlerinde Dünya'da ilk sırada yer alan ülke hangisidir?

- A) Fransa B) ABD
- C) İngiltere D) Türkiye


20. Aşağıdaki medeniyetlerden hangisi Amerika kıtasında hüküm sürmüştür?

- A) İnka B) Mısır
- C) Mezopotamya D) Hint

### (181) İNGİLİZCE - 1

1 - 20. sorularda boş bırakılan yere uygun gelen kelime ya da ifadeyi işaretleyiniz.


1.



There - - - - three oranges on the plate.

- A) will B) are C) do D) is

2.



The ball is - - - - the box.

- A) in B) on
- C) near D) under

3. - - - - comes back home at 7 pm.

- A) He B) We C) You D) They

4. We drink - - - - coffee and eat - - - - biscuits in the evenings.

- A) any / any B) any / some
- C) some / any D) some / some

5. I'm a teacher and - - - - name is Sinan.

- A) my B) her C) our D) their

6. Mehmet is a good student. He - - - - goes to school early.

- A) seldom B) always
- C) rarely D) never

7. Don't make any noise. Your sister - - - - .

- A) slept B) sleep
- C) sleeps D) is sleeping

8. I'm watching TV - - - - .

- A) sometimes
- B) in the morning
- C) at the moment
- D) every Saturday

9. My brother - - - - to Paris next week.

- A) fly B) flies
- C) flew D) is going to fly

10. We - - - - hurry. We have a lot of time.

- A) should B) shouldn't
- C) are D) aren't



# 1. OTURUM

11. I am going to study English -----.

- A) now                      B) usually  
C) tomorrow                D) yesterday

12. Reha and his English friend Tony went on a holiday together ----- year.

- A) next                      B) last  
C) ago                        D) now

13. He ----- a shower three times a week.

- A) read                      B) eat  
C) do                         D) has

14. People ----- live in small houses in the past.

- A) used                      B) used to  
C) uses                      D) are used to

15. Mert: ----- Japanese students like sports?

Aiko: Yes, they -----.

- A) Does / does            B) Are / are  
C) Do / do                 D) Is / is

16. Alex : ----- are you going?  
Mario: To the library.

- A) Where                    B) What  
C) How                      D) Who

17. Jonas: ----- ?  
Ali : I am from Turkey.

- A) How are you  
B) How old are you  
C) Where is Turkey  
D) Where are you from

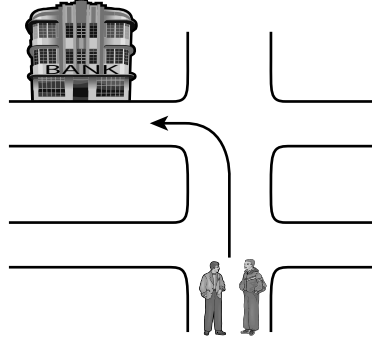
18. Ayşe : ----- ?  
Jane : She is English.

- A) Where is England  
B) What is the day today  
C) What nationality is she  
D) Where does she go at weekends

19. Linda: ----- ?  
Mary : Yes, here it is.

- A) Can you pass me the salt  
B) Can you lift the tables  
C) Can you sing a song  
D) Can you swim well

20.



Robert: How can I go to the bank?

Metin : You should ----- to go to the bank.

- A) take the second right  
B) take the second left  
C) take the third right  
D) take the third left


(181) ALMANCA – 1

1-19. sorularda boş bırakılan yere uygun gelen kelime ya da ifadeyi işaretleyiniz.

1. A: ----- liest du?  
B: Eine Zeitung.

- A) Wer                      B) Was  
C) Wie                      D) Wo

2.



Das ist ein -----.

- A) Vogel                    B) Maus  
C) Hund                    D) Katze

3. A: Hallo Freunde! Wann ----- wir heute schwimmen?  
B: Um 15 Uhr.

- A) gehe                      B) gehst  
C) gehen                    D) geht

4. Mein Vater hat mir ein grün- ----- Hemd gekauft.

- A) -e                         B) -en  
C) -er                        D) -es

5. Unser Lehrer fährt jedes Jahr mit ----- Frau nach Marmaris.

- A) seiner                    B) sein  
C) ihrer                     D) ihr

6. Ali ----- immer spät in die Schule. Deshalb hat der Lehrer seine Eltern gerufen.

- A) komme                   B) kommen  
C) kommt                  D) kommst

7. Ich habe jeden Tag ----- 8 Uhr ----- 13 Uhr Unterricht.

- A) mit / zu                  B) zu / bei  
C) bis / um                  D) von / bis

8. A: Ali und Murat! ----- ich mit euch Fußball spielen?  
B: Ja, natürlich.

- A) Kannst                   B) Wird  
C) Kann                    D) Wirst

9. A: ----- bist du geboren?  
B: Ich bin im Jahre 2000 geboren.

- A) Warum                  B) Wann  
C) Wo                        D) Was

10. Ali schreibt in das Heft mit ----- Füller. (der Füller)

- A) den                        B) der  
C) die                        D) dem

## 1. OTURUM

11. **A: - - - - geht ihr mit Klaus ?**  
**B: Wir gehen in den Supermarkt.**

- A) Wohin      B) Können  
C) Was        D) Kannst

12. **A: Wie gefällt dir die deutsche Fußballmannschaft?**

**B: - - - - spielen sehr gut.**

- A) Er            B) Es  
C) Sie         D) Das

13. **Die Schüler - - - - in der Prüfung viele Fehler - - - -.**

- A) hat / gemacht  
B) hast / machen  
C) habt / mache  
D) haben / gemacht

14. **A: Was möchte Sabine studieren?**

**B: Sie sagt, - - - - sie Lehrerin werden möchte.**

- A) denn        B) dass  
C) weil        D) so

15. **16, - - - -, 18**

- A) fünfzehn    B) sieben  
C) siebzehn    D) neunzehn

16. **A: Klaus und Thomas, - - - - ihr heute Sportunterricht?**

**B: Nein, wir haben - - - - Sportunterricht.**

- A) hat / eine    B) haben / eine  
C) habt / kein   D) hat / keine

17.




**Wo ist das Kleid?**

**Es - - - - im Kleiderschrank.**

- A) hängt        B) stehen  
C) hängen      D) hören

18.



**A: Wie spät ist es?**

**B: - - - - .**

- A) Viertel nach vier  
B) Viertel vor vier  
C) Viertel nach fünf  
D) Viertel vor fünf

19. **Mein Freund fragt, - - - - ich Auto fahren kann?**

- A) ob            B) so  
C) was         D) wie

20. **Aşağıdakilerden hangisi anlamca diğerlerinden farklıdır?**

- A) Ayran        B) Banane  
C) Limonade    D) Wasser

### (181) FRANSIZCA – 1

**1 - 16. sorularda boş bırakılan yere uygun gelen kelime ya da ifadeyi işaretleyiniz.**

1. **Le matin, - - - - écoute la radio française.**

- A) tu    B) il    C) ils    D) vous

2. **Dimanche dernier, - - - - avons fait une promenade en forêt.**

- A) ils            B) vous  
C) nous         D) elles

3. **Ebru - - - - en Belgique par avion avec la compagnie Turkish Airlines.**

- A) est arrivé    B) suis arrivé  
C) es arrivée   D) est arrivée

4. **Vous - - - - offert un cadeau à Camille pour son anniversaire.**

- A) avez            B) sont  
C) êtes            D) ont

5. **Meral et Güler - - - - retournées au Brésil l'année dernière.**

- A) sommes        B) êtes  
C) sont            D) ont

6. **Ma fille et moi avons passé - - - - dans un vieux quartier à Lyon.**

- A) la nuit         B) les oreilles  
C) la rue          D) la bouche

7. **J'ai fini - - - - les exercices de maths avant de sortir.**

- A) personne        B) tous  
C) chaque         D) aucun

8. **Béatrice est sortie - - - - heure que son mari.**

- A) les mêmes      B) certaine  
C) les autres      D) la même

9. **A: Antoine est marié ?**

**B: Non, - - - - depuis trois ans.**

- A) elle est belle  
B) elle est veuve  
C) il est dentiste  
D) il est divorcé

10. **Si elle n'avait pas peur, elle - - - - en avion.**

- A) voyageait      B) voyagerait  
C) ont voyagé     D) a voyagé

11. **Si mon fils trouve un travail, il - - - - une voiture.**

- A) achèterait      B) avais acheté  
C) achètera        D) avait acheté

## 1. OTURUM

12. A: Tamer regarde les émissions sportives à la télé?

B: Non, il - - - - les émissions sportives à la télé.

- A) ne regarde pas  
B) regarder  
C) ne regardent pas  
D) ne pas regarder

13. A: Tu as déjà vu la citadelle d'Alanya?

B: Non, je ne - - - - ai pas vue.

- A) leur B) la (l')  
C) lui D) le (l')

14. A: Tu lis le journal?

B: Oui, je - - - - lis chaque matin.

- A) des B) les  
C) du D) le

15. A: Est-ce que le directeur a du temps demain matin?

B: Non, il n'a pas - - - - temps demain matin.

- A) de B) du C) des D) de la

16. Des lunettes servent à - - - - .

- A) boire B) parler  
C) mieux voir D) manger

17. Cümleler sırasıyla okunduğunda anlam bütünlüğünü bozan cümleyi bulunuz.

(I) Il porte un béret. (II) Il mesure 1m 80. (III) Il est sévère. (IV) Ils marchent dans la cour.

- A) IV B) III C) II D) I


18-19 ve 20. sorularda verilen resme göre doğru ifadenin bulunduğunu seçeneği işaretleyiniz.

18.



- A) Elle a un sac et elle porte des lunettes de soleil.  
B) Elle a les cheveux raides et elle porte un manteau.  
C) Elle a un grand chapeau et elle porte un collier de perles.  
D) Elle a les cheveux frisés et elle porte un pantalon rayé.

19.



Il est très - - - - .

- A) gaie B) heureuse  
C) stressée D) gentil

20.



Elle a les lèvres - - - - .

- A) carrés B) épaisses  
C) mince D) long

(244) İNGİLİZCE – 5

1 - 20. sorularda boş bırakılan yere uygun gelen kelime ya da ifadeyi işaretleyiniz.

1. I didn't eat anything - - - - .

- A) next week B) tomorrow  
C) yesterday D) soon

2. Ece - - - - her room in the morning.

- A) cleaned B) broke  
C) drank D) had

3. - - - - I saw him, he was shopping.

- A) Because B) When  
C) While D) But

4. My father has worked here - - - - 2014.

- A) for B) yet  
C) since D) already

5. I - - - - be a teacher in the future.

- A) will B) have  
C) was D) has

6. They - - - - tea when she came.

- A) drinks B) will drink  
C) was drinking D) were drinking

7. The telephone has been out of order - - - - two days.

- A) since B) just  
C) ago D) for

8. I - - - - eat junk food when I was a child.

- A) should B) used to  
C) must D) may

9. I hope our team will - - - - the match.

- A) win B) use  
C) help D) cook

## 1. OTURUM

10. Did you use to - - - - by bus?

- A) write            B) stay  
C) travel           D) watch

11. - - - - has swum since morning.

- A) I    B) He    C) We    D) They

12. - - - - did you go yesterday morning?

- A) How many    B) Whose  
C) Where        D) What

13. We - - - - to Antalya next week.

- A) went            B) will go  
C) used to go    D) have gone

14. Let's go to the cinema, - - - - ?

- A) shall we      B) do you  
C) will you      D) are we

15. He brushes his teeth every day, - - - - ?

- A) did he        B) does he  
C) didn't he    D) doesn't he

16. Open the door, - - - - ?

- A) have you      B) will you  
C) did you        D) do you

17. This car is - - - - that car.

- A) fast            B) faster  
C) faster than    D) the fastest

18. Ayhan is - - - - handsome than Mehmet.

- A) the most      B) more  
C) very           D) as

19. Salih plays football - - - - than Kadir.

- A) better        B) the best  
C) good         D) well

20. A: - - - - ?

B: A hamburger.

- A) What did you watch  
B) What did you drink  
C) What did you read  
D) What did you eat

(244) ALMANCA – 5

1-17. sorularda boş bırakılan yere uygun gelen kelime ya da ifadeyi işaretleyiniz.

1. schnell, schnell- - - - - , am schnell- - - - -.

- A) -sten / -e    B) -e / -en  
C) -er / -sten   D) -en / -ste

2. gut, - - - - , am besten

- A) besser        B) guter  
C) beste         D) guten

3. A: - - - - wollen Sie Deutsch lernen?

B: - - - - ich in Deutschland studieren möchte.

- A) Warum / Weil  
B) Wozu / Denn  
C) Wie / Ob  
D) Was / Um

4. A: - - - - lernen die Schüler viel?

B: - - - - gute Noten - - - - bekommen.

- A) Wie / Um / zur  
B) Was / Weil / -  
C) Wozu / Ob / zum  
D) Warum / Um / zu

5. Februar, Juli, Oktober sind - - - -

- A) Tageszeiten  
B) Jahreszeiten  
C) Monate  
D) Stunden

6. Dienstag, - - - - , Donnerstag

- A) Montag        B) Mittwoch  
C) Freitag        D) Sonntag

7. A: - - - - hat Murat Deutsch?

B: Er hat - - - - Dienstag Nachmittag Deutsch .

- A) Wie lange / um  
B) Wann / am  
C) Wo / am  
D) Was / um

8.



Wasser - - - - .

- A) arbeiten      B) essen  
C) trinken        D) gehen

9. In der Türkei haben wir - - - - Januar Winterferien.

- A) bei            B) um  
C) zum           D) im

10. Die Schule endet jeden Tag - - - - 15 Uhr.

- A) bis            B) um  
C) bei            D) am


11. A: Hat Serdar ein neues Auto?

B: Nein, er hat - - - - neues Auto.

- A) keine        B) ein  
C) kein         D) eine

## 1. OTURUM

12.



Sibel ist dünner - - - - Sabine

- A) als                      B) um  
C) wo                      D) die


13. Ich wohne in Ankara, - - - -  
meine Eltern leben in Istanbul.

- A) weil                      B) um  
C) so                        D) aber

14. Ein Jahr hat - - - - Monate.

- A) zwölf                    B) zwanzig  
C) sieben                  D) vier

15.



A: Wie spät ist es?

B: - - - - .

- A) Es ist elf Uhr  
B) Es ist viertel nach elf  
C) Es ist halb elf  
D) Es ist viertel vor elf

16. A: Hast du den Hund gesehen?

B: Ja, er ist - - - - Garten.

- A) im                        B) unter  
C) in                        D) auf

17. Der Zug fährt um 8 Uhr - - - -  
Istanbul los .

- A) zu                        B) von  
C) um                        D) vom

18. Saat 13 - 17 arası aşağıdakiler-  
den hangisidir?

- A) Vormittag    B) Mittag  
C) Nachmittag    D) Abend

19. September, Oktober, November  
hangi mevsimin aylarıdır?

- A) Sommer    B) Winter  
C) Frühling    D) Herbst

20.



Was macht die Frau?

- A) Sie kocht  
B) Sie wäscht Wäsche  
C) Sie schreibt  
D) Sie putzt

(244) FRANSIZCA – 5

1 - 15. sorularda boş bırakılan  
yere uygun gelen kelime ya da  
ifadeyi işaretleyiniz.

1. Est- - - - - arrivé à Bursa l'été  
dernier ?

- A) tu    B) ils    C) elle    D) il

2. - - - - aiment les films  
romantiques.

- A) Vous                    B) Ils  
C) Nous                    D) Il

3. La France est un pays - - - -  
j'adore.

- A) que                      B) qui  
C) dont                      D) donc

4. Tu connais la ville - - - - est né  
Atatürk?

- A) que                      B) qui  
C) où                        D) donc

5. Voici la moto blanche - - - - mon  
frère a achetée.

- A) ce qui                    B) qui  
C) ce que                    D) que

6. - - - - il y a du soleil, elle va à la  
plage.

- A) Comment                B) Combien  
C) Quand                    D) Pourquoi

7. Ils se sont promenés dans les  
rues de Mardin - - - - printemps.

- A) au                        B) en  
C) il y a                      D) dans

8. Ma fille a fait du - - - - à  
Palandöken dimanche dernier.

- A) peinture                B) ski  
C) musculation            D) boxe

9. J'ai pris beaucoup de photos  
- - - - les vacances.

- A) enfin                      B) en  
C) pendant                    D) il y a

10. Le jeune - - - - le père travaille à  
Paris, est joueur de tennis.

- A) où                        B) dont  
C) qui                        D) que

11. Les enfants apprennent  
beaucoup de choses - - - - la  
télé.

- A) regarder                B) regardez  
C) regardé                    D) en regardant

12. Yavuz écoute de la musique  
- - - - de la peinture.

- A) en faisant                B) jouer  
C) en jouant                D) faire

## 1. OTURUM

13. L'année a 12 mois. Le 11<sup>e</sup> mois de l'année est - - - -.

- A) novembre B) janvier  
C) juin D) septembre

14. Julie travaille dans un magasin. Elle vend des vêtements et des chaussures. Elle est - - - -.

- A) médecin B) vendeuse  
C) écrivain D) avocat

15. A : Quelle est - - - - de Nicole?  
B : Elle est française.

- A) le nom  
B) le lieu de naissance  
C) le domicile  
D) la nationalité

16. "Les Dubois regardent le lever ou le coucher du soleil." cümlesinde altı çizili sözcüklerin yerine aşağıdaki şahıs zamirlerinden hangisi konulabilir?

- A) Elles B) Vous  
C) Ils D) Nous

17- 18. sorularda verilen cümlelerin Türkçe karşılığını işaretleyiniz.

17. Il a vu sa fille lisant le journal.

- A) Gazete okuyan kızını gördü.  
B) Kızım çizgi roman okuyordu.  
C) Gazete okuyan kızına seslendi.  
D) Dergi okuyan kızına bakıyor.

18. Çetin écoute de la musique classique en travaillant dans sa chambre.

- A) Çetin müzikholde eğlenmenin keyfini çıkarıyor.  
B) Çetin çalışmaya ara verdiği zaman klasik müzik dinler.  
C) Çetin odasında klasik müzik dinliyor.  
D) Çetin odasında çalışırken klasik müzik dinler.

19- 20. sorularda verilen cümlelerin Fransızca karşılığını işaretleyiniz.

19. Kantinde öğle yemeğini yiyen öğrenciler dışarı çıktılar.

- A) Il y a des élèves déjeunant à la cantine.  
B) Des élèves déjeunant à la cantine entrent dans la salle.  
C) Des élèves veulent déjeuner à la cantine.  
D) Les élèves déjeunant à la cantine sont sortis.

20. Ali yürürken ıslık çalıyor.

- A) Ali danse en chantant.  
B) Ali traversait l'avenue en sifflant.  
C) Ali siffle en marchant.  
D) Ali siffle en courant.

### (401) DİL VE ANLATIM – 1

1. Aşağıdakilerin hangisinde iletişimle ilgili yanlış bir bilgi vardır?

- A) İkel insanlar, birtakım sesler çıkararak ve işaretleşerek iletişim kurmuşlardır.  
B) İşaretleşme, en güçlü iletişim biçimidir.  
C) Günümüzde trafik işaretleri, amblem ve semboller birer iletişim aracıdır.  
D) İletişim ilk çağlardan günümüze kadar pek çok aşamadan geçmiştir.

2. Edebiyat Öğretmeni Yavuz Bey dil ve anlatım dersinde, "ağaç" kelimesinin Uygurca kökenli olduğunu ve bu kelimenin ilk hâlinin "ığaç" olduğunu söylemiştir.

Yavuz Bey'in vermiş olduğu bu bilgi, dil bilgisinin hangi kolunun inceleme alanına girer?

- A) Ses bilgisi (Fonetik)  
B) Biçim bilgisi (Morfoloji)  
C) Köken bilim (Etimoloji)  
D) Anlam bilim (Semantik)

3. Aşağıdakilerin hangisi dilin, kültür taşıyıcısı olduğuna örnek gösterilebilir?

- A) Hasankeyf'te milattan önceki döneme ait mimari yapıların bulunması  
B) Antalya'da Antik Yunan Dönemi'ne ait amfi tiyatrunun bulunması  
C) Ayasofya Camii'nin miladi 2. yüzyılla ait sanat anlayışının özelliklerini taşıması  
D) Orhun Yazıtları'nın Türk devlet anlayışı hakkında bilgiler vermesi

4. Dilin önemli özelliklerinden birisi, içinde konuşulduğu toplumların her türlü birikimini nesilden nesile aktarmasıdır. İnsanlar kimi yaşamsal ve fiziksel özelliklerini kalıtım yoluyla elde ederler. Ancak dili anne ve babamızdan kalıtım yoluyla değil, içinde büyüdüğümüz toplulukta insanları dinleyerek, onlara benzemeye çalışarak, onlarla konuşarak, doğuştan getirdiğimiz dil yetisini işleyerek edinmiş oluruz. İnsanoğlu, içinde yetiştiği topluluğun dilini edindikten sonra dil aracılığı ile o topluluğun tüm birikimlerini kendisinden sonra gelen kuşaklara aktarır. Topluları kalıcı kılan, dilin bu özelliğidir.

Bu parçada vurgulanan düşünce aşağıdakilerden hangisidir?

- A) İnsanları toplum yapan her türlü değer, dil vasıtasıyla geleceğe aktarılır.  
B) Dil, insanlar arasında anlaşmayı sağlayan en önemli araçtır.  
C) Toplum olmanın ilk şartı aynı dili konuşmaktır.  
D) Dil, kendisini sürekli yenileyen canlı bir varlıktır.

5. Yazı dili ile ilgili aşağıdakilerden hangisi yanlıştır?

- A) Resmî yazışmalarda, gazete ve dergi yazılarında kullanılan dildir.  
B) İşitme ve görme duyusuna hitap eder.  
C) Noktalama işaretlerine ve yazım kurallarına dikkat edilir.  
D) Konuşma diline göre daha uzun cümleler kurulabilir.

## 1. OTURUM

6. Konuşma dili, kişilerin kültür düzeylerine ve bölgeden bölgeye farklılık gösterir. Bu farklılaşmada yöresel konuşma biçimlerinden biri yazı dili olarak kabul edilir. Bugün Türkiye’de - - - - yazı dili olarak kullanılmaktadır.

**Bu parçada boş bırakılan yere aşağıdakilerden hangisi getirilmelidir?**

- A) Konya ağzı B) Ankara ağzı  
C) İzmir ağzı D) İstanbul ağzı

7. I. Diller arasındaki yakınlık ve benzerliğe dil akrabalığı adı verilir.  
II. Dil akrabalığı olan diller, ait oldukları ulusların aynı soydan geldiklerini gösterir.  
III. Yeryüzündeki diller; yapı, köken, coğrafya ve tarihî gelişim olmak üzere dört bakımdan incelenir.  
IV. Yeryüzünde konuşulan dil sayısının 3000-3500 arasında olduğu tahmin edilmektedir.

**Numaralanmış cümlelerin hangilerinde bilgi yanlışlığı vardır?**

- A) I ve II. B) I ve III.  
C) II ve III. D) III ve IV.

8. Aşağıdaki eşleştirmelerden hangisi **yanlıştır**?

- A) Almanca – Ural-Altay Dilleri Ailesi  
B) Arapça – Hami-Sami Dilleri Ailesi  
C) Farsça – Hint-Avrupa Dilleri Ailesi  
D) Tibetçe – Çin Dilleri Ailesi

9. Bu çağ 5 – 10. y.y. arasını kapsar. Türkçenin bilinen en eski örnekleri bu dönemden (8. y.y.) kalmıştır. Türk adının kullanıldığı ve ilk Türkçe belgelerin ortaya konulduğu çağdır. Bu çağ Göktürkçe ve Uygurca olmak üzere iki döneme ayrılır.

**Bu parçada Türk dilinin hangi döneminden bahsedilmektedir?**

- A) İlk Türkçe Çağı  
B) Eski Türkçe Çağı  
C) En Eski Türkçe Çağı  
D) Altay Çağı

10. Aşağıdakilerden hangisi **Türkçenin gelişmesine katkı sağlayan eserlerden biri değildir**?

- A) Şehname  
B) Kutadgu Bilig  
C) Atabetü'l Hakayık  
D) Divanü Lügati't Türk

11. Konuşma sırasında sözcükler aynı şekilde söylenmez. Türkçede sözcükler söylenirken bazı heceler diğerlerine göre daha kuvvetli, daha şiddetli söylenir. Buna - - - - denir.

**Bu parçada boş bırakılan yere aşağıdakilerden hangisi getirilmelidir?**

- A) boğumlanma  
B) telaffuz (söyleyiş)  
C) iletişim  
D) vurgu

12.

	Düz		Yuvarlak	
	Geniş	Dar	Geniş	Dar
Kalın	o	ı	a	u
İnce	e	i	ö	ü

**Bu tablodaki hangi sesler yer değiştirirse yanlışlık giderilmiş olur?**

- A) a – o B) ı – ö  
C) o – e D) i – u

13. Aşağıdaki sözcüklerin hangisinde büyük ünlü uyumuna uyulmamasının nedeni diğerlerinden farklıdır?

- A) Hakikat B) Trafik  
C) Başlarken D) Pehlivan

14. (I) Ağaçtan yapılmış yüksek kulübede konuşuyoruz Salih ile. (II) Gözü sürekli yüz metre ötedeki oğlunda. (III) Bir kayanın üstüne çömelmiş, kumluk bir bölgeyi gözetliyor. (IV) Bir anda elini yukarı kaldırarak ayağa fırlıyor.

**Bu parçada numaralanmış cümlelerin hangisinde ünlü düşmesine uğramış bir sözcük vardır?**

- A) I. B) II. C) III. D) IV.

15. Odadan çıktığımda birçok meraklı bakışla karşılaşmıştım.

**Bu cümledeki altı çizili sözcükte görülen ses olayları aşağıdakilerin hangisinde verilmiştir?**

- A) Ünsüz benzeşmesi – sert ünsüzlerin yumuşaması  
B) Orta hece ünlüsünün düşmesi – ünsüz benzeşmesi  
C) Ünlü düşmesi – ünlü türemesi  
D) Ünsüz benzeşmesi – ünsüz türemesi

16. Aşağıdaki cümlelerin hangisinde büyük harflerin kullanımıyla ilgili bir yazım yanlışlığı yapılmıştır?

- A) Behçet Kemal Çağlar, Ankaralı Âşık Ömer mahlasıyla şiirler yazmıştır.  
B) Türkler, 8. yüzyıldan itibaren İslamiyet’i kabul etmeye başlamıştır.  
C) Edebiyat Öğretmeni Ayşe hanım şiir dinletisi düzenleyecekmiş.  
D) Kırıkkale, İç Anadolu’nun önemli sanayi şehirlerindedir.

17. Kardeşim de geldimi

I II  
kayıp olan yüzüğü hep birlikte  
III  
aramaya başlayacaktık.  
IV

**Bu cümlede numaralanmış sözlerin hangilerinde yazım yanlışlığı vardır?**

- A) I ve II. B) I ve III.  
C) II ve III. D) III ve IV.

18. Askerler ( ) bu vatan size müteşekkirdir! Vatanın her karış toprağını düşmana terk etmemek için canından vazgeçip şehit olmak, yeri hiçbir makam ile doldurulamayacak kutsal bir payedir. **Bu parçada ayağla gösterilen yere aşağıdaki noktalama işaretlerinden hangisi getirilmelidir?**

- A) Noktalı virgül ( ; )  
B) Virgül ( , )  
C) Nokta ( . )  
D) Ünlem ( ! )

## 1. OTURUM

19. Aşağıdaki cümlelerin hangisinde kesme işaretinin ( ' ) kullanımı yanlıştır?

- A) Kitabın 50'nci sayfasında ilginç bir tablo var.  
B) Atatürk'ün doğduğu ev müze hâline getirilmiştir.  
C) ÖSYM'nin yayımladığı duyuru, adayları yakından ilgilendiriyor.  
D) Türk Dil Kurumu'ndan konuyla ilgili bir açıklama yapılmadı.

20. Selanik'teki evimin balkonu zannederim çok daha genişti bu odanınkinden ( ) Zannederim derken içim acıyor ( ) insan doğduğu şehri ( ) yaşadığı şehri unutabilir mi ( )

**Bu parçada ayrıca gösterilen yerlere aşağıdaki noktalama işaretlerinden hangileri sırasıyla getirilmelidir?**

- A) ( . ) ( . ) ( ; ) ( ! )  
B) ( ; ) ( ; ) ( . ) ( ? )  
C) ( , ) ( ; ) ( ; ) ( ! )  
D) ( . ) ( ; ) ( , ) ( ? )

### (402) DİL VE ANLATIM – 2

1. Uyu! Gözlerinde renksiz bir perde,

I  
Bir parça uzaklaş kederlerinden

II  
Bir ruh gülümsüyor gibi derinden

III IV  
Mehtabın ördüğü saatler nerde

**Bu dizelerdeki altı çizili sözcüklerden hangisi kökünün türü yönüyle diğerlerinden farklıdır?**

- A) I. B) II. C) III. D) IV.

2. Aşağıdaki cümlelerin hangisinde altı çizili sözcük türemiş değildir?

- A) Annemizin şefkati, babamızın güveni, ilk aşkımızdır vatan.  
B) Refik Halit, Türkiye'de mizaha bir yenilik ve tazelik getirmiştir.  
C) 15. yüzyıl şairlerinden Şeyhî aynı zamanda büyük bir doktordur.  
D) Vefalı bir insan olan Mehmet Akif, dostlarını sık sık ziyarete giderdi.

3. Aşağıdaki atasözlerinin hangisinde mecazlı bir söyleyiş yoktur?

- A) Minareyi çalan kılıfını hazırlar.  
B) Sarımsağı gelin etmişler de kırk gün kokusu çıkmamış.  
C) Yalancının mumu yatsıya kadar yanar.  
D) Güvenme varlığa, düşersin darlığa.

4. Adımı çağırıyor yepyeni dostlar;

I  
Bu dostlar ne güzel, dilsiz ve adsız

II  
Evimin yerinde bir başka ev var

III  
Avlusu karanlık, suları tatsız

IV

**Bu dizelerdeki numaralanmış sözcüklerden hangisinin zıt (karşıt) anlamlısı yoktur?**

- A) I. B) II. C) III. D) IV.

5. I. "Yemiş" sözcüğü eskiden tüm meyveleri karşılarken günümüzde sadece "incir" için kullanılmaktadır.

II. "Yol" sözcüğü temel anlamıyla "üzerinden geçilen yer" anlamını taşıırken zamanla "sistem, yöntem, metot" gibi anlamları da karşılamaya başlamıştır.

III. "Yavuz" sözcüğü "kötü, fena" anlamını taşıırken günümüzde "güçlü, çetin, iyi, güzel" anlamını kazanmıştır.

**Yukarıda numaralanmış cümlelerin örneklendirdiği kavramlar aşağıdakilerin hangisinde sırasıyla verilmiştir?**

	I	II	III
A)	Anlam genişlemesi	Anlam daralması	Başka anlama geçiş
B)	Anlam daralması	Anlam genişlemesi	Başka anlama geçiş
C)	Başka anlama geçiş	Anlam daralması	Anlam genişlemesi
D)	Anlam daralması	Başka anlama geçiş	Anlam genişlemesi

6. Aşağıdaki cümlelerin hangisinde ikileme kuruluşu bakımından farklıdır?

- A) Adam mal mülke konunca kendisini kaybetti.  
B) Müdür Bey kılık kıyafetimize dikkat etmemizi istedi.  
C) Eş dost bu mutlu günümde beni yalnız bırakmadı.  
D) Yol o kadar çamurluydu ki bata çığa ilerlemeye çalışıyorduk.

7. Aşağıdaki cümlelerden hangisi bir paragrafın giriş cümlesi olmaya en uygundur?

- A) Yaşayıp yaşamama işi de isteğe bağlı değil, çevreyle doğrudan ilgilidir.  
B) Mutluluğumuz da mutsuzluğumuz da sözcüklere verdiğimiz anlamlara bağlıdır.  
C) Sözcüklerinde gözlemediğimiz bu şiirselliği Türkçenin deyimlerinde de bulabiliriz.  
D) Gerçekten de dil ve düşünce karşılıklı olarak birbirlerini oluşturur.

8. Aşağıdakilerden hangisi iki ögeli bir cümledir?

- A) Ege Bölgesi'nde turizm önemli bir gelir kaynağıdır.  
B) O senelerde bizim oralarda büyük bir kıtlık oldu.  
C) Okumak, farklı bir dünyaya girmenin ilk basamağıdır.  
D) İskenderun Körfezi'ne sekiz yüz metre yukarıdan bakıyordum.

9. Gerçek radyo oyunu, düşünle gerçek arasındadır. Gerçeküstü öğeler ve sembollerle beslenir. Çok kere mecaz diliyle konuşur. Alegorik ve trajiktir. Tuluatla, skeçle, kabare ile hiç ilgisi yoktur. Yazarından, okuyucusundan, dinleyicisinden incelmış bir zevk ve saygı bekler. Düşündürücüdür. Sembollerden kuvvet alır, mecazlarla güçlenir; şiire yakındır, şiirsel arka planlar ister.

**Bu parçadan radyo oyunları ile ilgili aşağıdakilerden hangisine ulaşamaz?**

- A) Sade, sanatsız bir anlatımı vardır.  
B) Simgesel anlatıma ağırlık verilir.  
C) Diğer tiyatro türlerine benzemez.  
D) Şiir türüyle kuvvetli bir bağı vardır.



## 1. OTURUM

10. Aşağıdakilerden hangisi tek yargısı olan bir cümledir?

- A) Boğucu, alabildiğine sıcak, nemli bir hava oluşmuştu.
- B) Güzel düşünceler gösterişe ihtiyaç duymaz.
- C) Vitrinlerden kaldırımlara yansıyan ışıkların alacasında yürüdüm.
- D) Hayat bazen sen kılını kıpırdatmasan da mutlulukla doluyor içini.

11. Aşağıdaki cümlelerden hangisinin sonuna ünlem işareti getirilmelidir?

- A) Gözlerimi kamaştıran lambalar birer birer parlıyor
- B) Bu konuda bana yalan söyledin ya, alacağın olsun
- C) En son okuduğun kitabın zararı kimdi
- D) Şu düşündüklerimi gerçekleştirebilirsem

12. (I) Hava soğuk, lapa lapa kar yağıyor. (II) Her tarafımı amansız ağrılar sarmış. (III) İleride büyük ve eski bir han görünüyor. (IV) Bu handa mutlaka mola verip dinlenmeliyim.

**Bu parçada numaralanmış cümlelerden hangisi haber cümlesi değildir?**

- A) I. B) II. C) III. D) IV.

13. Bir şiirin değerini tek başına üslup veya içerik belirlemez, şiir bu ikisinin karışımıdır.

**Aşağıdakilerden hangisi bu cümleye anlamca en yakındır?**

- A) Büyük şairler üslubun basitliğinden kaçındıkları için büyük şair olmuşlardır.
- B) Şiirde her zaman toplumsal mesaj aranmalıdır.
- C) İyi şiirde hem dilin özenli olmasına hem de konu seçimine dikkat edilmelidir.
- D) Bir şiiri sadece uyak ve ölçüden ibaret saymak büyük bir yanılıdır.

14. I. Beni dün arayan adam, bu adam değildi.  
II. Sessizliğe şimdiki kadar hiç ihtiyaç duymamıştım.  
III. Komşumuz akıllı sıra bizi kandırmaya çalışıyordu.  
IV. Arkadaşımın elinde bayağı kalın bir kitap vardı.

**Yukarıdaki numaralanmış cümlelerden hangileri anlamca olumsuzdur?**

- A) I ve II. B) I ve III.  
C) II ve III. D) II ve IV.

15. Aşağıdakilerden hangisi sözde soru cümlesidir?

- A) Bizimle okula kadar gelebilir misiniz?
- B) Öğretmen bugün gelmeyecek miymiş?
- C) O sanatçının hangi romanını okudun?
- D) Senin ne kadar inatçı olduğunu bilmez miyiz?

16. Kardeşimiz olarak seni çok seviyor ve sonuna kadar güveniyoruz.

**Bu cümledeki anlatım bozukluğu aşağıdakilerden hangisiyle düzeltilir?**

- A) "ve" bağlacından sonra "sana" sözcüğü eklenerek
- B) "Kardeşimiz olarak" ifadesini cümleden atarak
- C) "seviyor" sözcüğünü "seviyoruz" şeklinde kullanarak
- D) "güveniyoruz" sözcüğünü "inanıyoruz" şeklinde değiştirerek

17. "Kime yazar denir, kime yazar denmez?" sorusu yanında, "Kime yazar demek gerekir, kime yazar demek gerekmez?" sorusu da hemen hemen hiç umursanmayan bir sorudur. Sık sık birbiriyle karıştırılan bu iki soru çevresinde beni en çok çileden çıkararak olgu her yanda karşılaşılan bir alışkanlık: Çevirmenleri yazardan saymamak! Katlanamıyorum bu duruma. Bol keseden "yazarlık" dağıtanlar, söz çevirmene geldi mi ağızlarını bile açmıyorlar. Dedim ya tam da buna dayanamıyorum!

**Bu parça aşağıdakilerden hangisine örnektir?**

- A) Olay paragrafı
- B) Betimleme paragrafı
- C) Düşünce (fikir) paragrafı
- D) Düşsel (fantastik) paragraf

18. Türkler akıncı bir kavim oldukları için gittikleri ve yerleştikleri her yerde yabancı tesirlere maruz kalmışlardır. Yalnız Çin'de değil, başka ülkelerde hanedan veya devlet kuran Türklerden de zamanla yok olanlar vardır. Bulgarlar IX. yüzyıldan önce Türk'tüler. Fakat bu asırdan sonra Slav ve Hristiyan kültürü tesiri altında kalarak millî şahsiyetlerini kaybetmişlerdir. Çin'de büyük bir devlet kuran Tabgaçlar da Budizm'i kabul ettikten sonra yok olmuşlardır. Yalnız İslamiyet, birçok bakımdan eski Türk medeniyetine uygun olduğu için Türklerin asırlarca süren büyük bir devlet ve medeniyet kurmasını sağlamıştır.

**Bu parçadan aşağıdakilerin hangisine ulaşılamaz?**

- A) Dünya üzerinde benliklerini kaybeden Türk boylarının olduğuna
- B) İslamiyet'in kabulüyle Türklerin yerleşik yaşama geçtiğine
- C) İslam dini sayesinde Türklerin güçlü devlet kurduğuna
- D) Türklerin farklı kültürlerden etkilendiğine

## 1. OTURUM

### (407) DİL VE ANLATIM – 7

19. Çevremde dayak kadar zararlı olduğunu gördüğüm bir eski eğitim yolu da öğüt vermedir. Hiçbir çocuğun öğütlere kulak astığını görmüş değilim. Tersine, öğüt dinlemekten bunalan, kafasına zorla sokulmak istenen akla karşı koyan çocuklar, gençler görmüşümdür. Dayak gibi öğüt de tepeden inme bir eğitimidir. O da bir çeşit ezme, küçültmedir insanı. Öğüt veren, örnek olmayandır çokluk. Oğluna durmadan yalan söyleyen bir babanın doğruluk öğütleri vermesinden daha gülünç ne olabilir? Çocuk da bizim gibi söze değil işe bakar.

**Bu parçada asıl anlatılmak istenen aşağıdakilerden hangisidir?**

- A) Çocukların eğitiminde kullanılan en zararlı yöntemlerden biri öğüt vermektir.  
B) Çocukların, büyüklerinden öğrenecekleri şeyleri televizyondan, sanal âlemden öğrenmeleri sakıncalıdır.  
C) Anne-babaların çocuklarına yalan söylemeleri onların çocuklar tarafından sorgulanmasına neden olur.  
D) Büyükler küçükleri sözle değil, model olarak doğruya ve güzele kolay bir şekilde yönlendirebilir.

20. Deneme, karakter itibarıyla bir fikir yazısıdır ama ne makale ne fıkra ne de bütününü sohbet niteliği gösterir. Başlı başına bir yazı çeşidi olarak karşımıza çıkar. Belli bir kaideye dayanmaz, kesin kurallara sahip değildir. İddiacı ve ispatlayıcı bir havası yoktur. - - -

**Bu parçanın sonuna düşüncenin akışına göre aşağıdakilerden hangisi getirilmelidir?**

- A) Yazar, bir düşüncenin peşine takılır ve okuru da bu düşüncenin peşinde sürükler.  
B) Bu türde yazar; konu seçmekte, anlatmada, üslupta ve planda serbesttir denebilir.  
C) Deneme birçok türün özelliğini bünyesinde taşıdığı için fazlasıyla tercih edilmektedir.  
D) Deneme yazarı, yazılarında ciddi konuları tercih ederek okuru yönlendirmeye çalışır.

1.

	Sanatsal Metinler	Öğretici Metinler
I.	Dil, göndergesel işlevde kullanılır.	Dil, şiirsel işlevde kullanılır.
II.	Okuyucuya estetik zevk verme amacı vardır.	Okuyucuya bilgi verme amacı vardır.
III.	Dil sanattır, üslup kaygısı vardır.	Resmî, açık ve sade bir dil kullanılır.
IV.	Olaylar gerçek ya da kurmacadır.	Gerçekler dile getirilir, kurmaca değildir.

**Öğretici ve sanatsal metinlerin karşılaştırıldığı bu tabloda kaç numaralı bölümde bilgi yanlışlığı vardır?**

- A) I. B) II. C) III. D) IV.

2. **Aşağıdakilerden hangisi sanatsal bir metinden alınmıştır?**

- A) Dağlarca'nın hesaplı sanatı, dörtlüklerinden başlıklarına kadar kendini her yerde gösteriyor. Bu başlıklar, edaca öbür ozanların başlıklarından ayrılmakla kalmıyor, onlarınkinden daha başka bir iş de görüyor.  
B) Bu yılın başlarında başlayan yağmurlar dünyayı etkisi altına aldı. Barajları, setleri ve köprüleri yıkan seller ölümcül sonuçlara yol açtı. Bir süre önce Trabzon'da yaklaşık üç saat süren yağmur, Sürmene ilçesi ve haritadan silinen Beşköy'de mal ve can kaybına yol açtı.  
C) Bir şiire başladığımda sonunu getirmedikçe sinirliyimdir. Her şey beni sıkıyor, kavga ararım. Şiiri bitirince de en çok iki üç gün dinlenir, bir yenisine başlarım. Zaten yazacağım bitti, demedim hiç kendi kendime.  
D) Kubbeli Salon'a girince önce tanıyamadım, bordo kadife koltukta oturan, yakışıklı yüzünde yılışık bir ifadeyle bana bakan adamı. Elbette Basri Bey değildi ama birkaç adım atıp yaklaşıncaya çıkardım: Mehmed Esad.

3. **Aşağıdakilerin hangisinde araç içindeki kavram, yapılan açıklama ile uyusmamaktadır?**

- A) Operetin daha hafif fakat hiciv, alay, eleştiri dolu bir çeşididir. (revü)  
B) Daha çok müziğin egemen olduğu baştan sona bestelenmiş bir oyun çeşididir. (absürd tiyatro)  
C) Beş altı dakikaya sığdırılan tablolar hâlinde, kısa müzikli oyunlardır. (skeç)  
D) Amacı seyirciyi sahneye yabancılaştırmak olan gösterme tiyatrosunun bir biçimidir. (epik tiyatro)

4. - Farklı anlatım tekniklerine aynı metin içinde yer verilebilir.  
- Sanatı bir tür oyun olarak görür.  
- Çok seslilik ve çoğulculuk önem kazanmıştır.

**Bu özellikler aşağıdakilerden hangisine aittir?**

- A) Olay öyküsü  
B) Postmodern roman  
C) Durum öyküsü  
D) Natüralist roman

5. **Aşağıdaki sanatçılardan hangisi olay hikâyesinin temsilcilerinden değildir?**

- A) Tarık Buğra  
B) Ömer Seyfettin  
C) Necati Cumalı  
D) Reşat Nuri Güntekin

6. ... Kararlaştırılan günde tilki, eline bir demet çiçek alıp arkadaşının evine gitmiş. Leylek, arkadaşını kibarca karşılayıp buyur etmiş. Biraz sonra yeni pişmiş olan yemek dar boğazlı, vazo gibi bir kabin içinde sofraya gelmiş.  
**Bu parça aşağıdaki edebî türlerin hangisine örnektir?**

- A) Roman B) Halk hikâyesi  
C) Fabl D) Destan

## 1. OTURUM

7. Aşağıdaki dizelerin hangisi, ayrıca içinde verilen edebî sanata uygun bir örnek değildir?

- A) Bu kadar letafet çün sende var Beyaz gerdanına bir de ben gerek (Tevriye)
- B) Avazeyi bu âleme Davud gibi sal Bâki kalan bu kubbede bir hoş sadâ imiş (Tariz)
- C) Geldim işte mevsim gibi kapına Gözlerimde bulut, saçlarımda çiğ (Benzetme)
- D) Bir gün meşe dedi ki kamaşa: "Tabiattan şikâyet etmeye hakkınız var." (Konuşurma)

8. Şiir; yazıldığı dönemin siyasi, ekonomik, askerî ve toplumsal yapısından etkilenir.

**Buna göre aşağıdaki dizelerin hangisinde bu etkilenme açık bir şekilde görülmektedir?**

- A) Düşünürken kendimden başkasına inanmam İnanırsam ben senden başkasına inanmam
- B) Seni bende, beni sende arıyorlar Beni senden, seni benden tanıyorlar
- C) Canavarlar kaçıyormuş gibi gür bir doludan Bir salib ordusu bozgun, kaçıyor Niğbolu'dan
- D) Sönük bir gemidir yalnızlık Gözlerde dumani kalır

9. Gün olur, Köprü ortasında durur, Anarım Adalar'da çamların uykusunu,  
Gün olur, Beyoğlu'nu özler içim, Koklamak isterim tünelin kokusunu

**Bu dördlüğe hâkim olan tema aşağıdakilerden hangisidir?**

- A) Yalnızlık
- B) Ölüm
- C) Yaşama sevinci
- D) Hasret

10. Romanın tür olarak Türk edebiyatında görülmesi Fransızcadan ---- çevirdiği Fenelon'un ---- adlı eseriyle olmuştur.

**Bu cümlede boş bırakılan yerlere aşağıdakilerden hangileri sırasıyla getirilmelidir?**

- A) Şinasi'nin – Sefiller
- B) Yusuf Kâmil Paşa'nın – Telemak
- C) Namık Kemal'in – Suç ve Ceza
- D) Ziya Paşa'nın – Emile

11. I. Olay, zamana göre mantıklı bir sıra ile verilir.  
II. Serim, düğüm, çözüm planına uyulmaz.  
III. Olay, kişi, mekân ilişkisi okuyucuda gerçeklik duygusu oluşturur.  
IV. Bu türün en önemli temsilcileri Memduh Şevket Esenal ve Sait Faik'tir.

**Yukarıdaki numaralanmış bilgilerden hangileri olay hikâyesi için söylenemez?**

- A) I ve II. B) I ve III.
- C) II ve IV. D) III ve IV.

12. "Masal" ile ilgili aşağıdaki bilgilerden hangisi yanlıştır?

- A) Sözlü gelenekten derlendiği sanılan ilk Türkçe masal kitabı Binbir Gece Masalları'dır.
- B) Türk masalları Hint, İran ve Arap kaynaklı masallardan etkilenmiştir.
- C) Masalların kökeni ile ilgili ilk araştırmayı Wilhelm Grimm yapmıştır.
- D) Masallarda genel olarak yer ve zaman belirsizdir.

13. - Batı'da ilk fabl yazarı olarak kabul edilir.  
- Şeyhî'nin fabl türündeki eseridir.  
- Dünyada "Masalın Babası" olarak ün yapmış olan sanatçidir.

**Bu cümlelerde aşağıdaki eser veya kişilerin hangisiyle ilgili bir bilgi verilmemiştir?**

- A) Mecalisü'n Nefais
- B) Harname
- C) Aisopos (Ezop)
- D) Andersen

14. Köken olarak Yunanca olan ---- MÖ 7 ve 8. yüzyıllarda Dionysos adına düzenlenen törenlerden doğduğu varsayılmaktadır.  
**Bu cümlede boş bırakılan yere aşağıdakilerden hangisi getirilmelidir?**

- A) hikâyenin B) fablın
- C) masalın D) tiyatronun

15. Tragedya ile ilgili olarak aşağıdakilerden hangisi doğrudur?

- A) Üç birlik kuralına uyulmaz.
- B) Kötü olaylar sahnede gösterilir.
- C) Kişileri yüksek tabakadan kimseledir.
- D) Güldürme ve eğlendirme amacı vardır.

16. I. Koşma  
II. Mesnevi  
III. Türkü  
IV. Sone

**Numaralanmış nazım biçimlerinden hangileri halk şiirine aittir?**

- A) I ve II. B) I ve III.
- C) II ve III. D) III ve IV.

17. Sev seni seveni Hak ile yeksân ise Sevme seni sevmeyeni Mısır'a sultan ise

**Bu dizelerde "s" sesinin sık kullanımıyla sağlanan ahenge verilen isim aşağıdakilerden hangisidir?**

- A) Cinas B) Aliterasyon
- C) Asonans D) Akrostiş

18. Hikâye ile ilgili aşağıdaki bilgilerden hangisi yanlıştır?

- A) Kişi, mekân, zaman, olay öğeleri vardır.
- B) Olayları kısaca anlatan bir türdür.
- C) Olaylar tamamen düş gücünden beslenir.
- D) Edebiyatımızda Batılı anlamda ilk örnekleri Tanzimat'ta verilmiştir.

19. Edebiyatımızda ilk tarihî roman ----, ilk Türkçe roman ----, ilk psikolojik roman ---- kabul edilir.  
**Bu cümlede boş bırakılan yerlere sırasıyla aşağıdakilerden hangileri getirilmelidir?**

- A) İntibah – Araba Sevdası – Dokuzuncu Hariciye Koğuşu
- B) Yaban – Hasan Mellah – Zehra
- C) Cezmi – Taşşuk-ı Talat ve Fitnat – Eylül
- D) Cezmi – İntibah – Zehra

## 1. OTURUM

20. Halk hikâyeleriyle ilgili aşağıda verilen bilgilerden hangisi yanlıştır?

- A) 16. yüzyıldan itibaren destanların yerini tutmaya başlamıştır.
- B) Âşık dediğimiz anlatıcılar tarafından günümüze kadar getirilmiştir.
- C) Oluşum şekilleri bakımından destanla benzerlik gösterir.
- D) Kahramanlarıyla gerçek yaşamdaki insanlar arasında benzerlik yoktur.

### (408) DİL VE ANLATIM – 8

1. - Amaç dinleyicileri coşturmak değil, bir topluluğu bilgilendirmektir.  
- Genellikle bilim, sanat ve ekonomi alanlarında gerçekleştirilir.  
- Bir kişinin uzmanı olduğu konuyla ilgili düzenlenir.

**Bu özellikler aşağıdaki sözlü anlatım türlerinin hangisine aittir?**

- A) Açık oturum B) Panel
- C) Konferans D) Sempozyum

2. “Yabancı dille eğitim gerekli midir, gereksiz midir?” **konusunu tartışmaya en elverişli sözlü anlatım türü aşağıdakilerin hangisidir?**

- A) Münazara B) Panel
- C) Açık oturum D) Sempozyum

3. **Bilimsel yazılarda aşağıdaki anlatım türlerinden hangisinin kullanımı daha azdır?**

- A) Açıklayıcı anlatım
- B) Tartışmacı anlatım
- C) Öğretici anlatım
- D) Destansı anlatım

4. Üniversitemizde 18-20 Aralık 2015 tarihlerinde yapılacak olan “Çocuk Eğitiminde Etik” konulu - - - - tüm öğretim üyesi ve öğrencilerimiz davetlidir.

**Bu duyuruda boş bırakılan yere aşağıdaki sözlü anlatım türlerinden hangisi getirilmelidir?**

- A) foruma
- B) sempozyuma
- C) münazaraya
- D) açık oturuma

5. **Aşağıdakilerden hangisi bilimsel yazıların bölümlerinden biri değildir?**

- A) Özet B) Sunum
- C) Giriş D) Asıl metin

6. **Aşağıdakilerin hangisinde bilimsel yazılarla makale türünün karşılaştırılması doğru yapılmıştır?**

- A) Bilimsel yazılarda anlatılanlar kanıtlanırken makalede kanıtlama amacı yoktur.
- B) Bilimsel yazılarda ciddi, ağırbaşlı bir dil kullanılırken makalede samimi, okurla konuşur gibi bir üslup tercih edilir.
- C) Bilimsel yazılar makaleye göre daha geniş bir araştırmaya dayanır.
- D) Bilimsel yazılarda amaç okuyucuyu bilgilendirmek, makalede ise eğlendirmek ve güldürmektir.

7. Düzenlenen bir tartışmada başkan, dinleyicilerin de sorularını almak istediğini söylemiş ve dinleyicilere söz hakkı vermiştir. Böylece tartışma bir tür - - - - dönüşmüştür.

**Bu parçada boş bırakılan yere aşağıdakilerden hangisi getirilmelidir?**

- A) münazaraya B) brifinge
- C) söyleve D) foruma

8. I. Konuşmaları özetlemek  
II. Açık oturumun yapılış nedeni  
III. Açık oturumu sonuca bağlamak  
IV. Konuşmacılara sorulacak sorular  
V. Açık oturumun konusu ile ilgili olayın ya da gelişmelerin anlatımı

**Numaralanmış ifadelerin açık oturum planına göre doğru sıralaması aşağıdakilerden hangisidir?**

- A) I – IV – V – II – III
- B) II – I – IV – III – V
- C) II – V – IV – I – III
- D) V – I – II – IV – III

9. **Aşağıdakilerin hangisinde münazara ile ilgili yanlış bir bilgi vardır?**

- A) Münazara, görüş ve karşı görüşün tartışılması esasına dayanır.
- B) Asıl amaç, demogoji yoluyla düşünceleri kabul ettirmektir.
- C) Hakem kurulu, başkan, konuşmacılar ve sözcü bulunur.
- D) Öğrencilerin konuşma yeteneğinin gelişmesine katkıda bulunur.

10. **Alınan kararların bilimsel değer taşınması yönüyle basılı materyal hâline getirilerek kamuoyu ile paylaşıldığı tartışma türü aşağıdakilerden hangisidir?**

- A) Münazara B) Açık oturum
- C) Sempozyum D) Konferans

11. - Geniş halk kitlelerinin ilgi duyduğu konular ele alınır.  
- Radyo ve televizyonlarda yayımlanmaya elverişlidir.  
- Bir konu üzerinde birlikte düşünme amacı taşır.

**Bu özellikler aşağıdaki tartışma türlerinden hangisine aittir?**

- A) Forum B) Sempozyum
- C) Konferans D) Açık oturum

## 1. OTURUM

12. Forumla ilgili aşağıdaki bilgilerden hangisi yanlıştır?

- A) Tartışılacak konu toplantıyı düzenleyen kişi tarafından açıklanır.
- B) Amaç belli bir karara varmak, üzerinde uzlaşılan bir sonuca ulaşmaktır.
- C) Söz alan dinleyiciler konuyla ilgili olmayan noktalara değinmemelidir.
- D) Sorular kısa, açık ve net olmalı; zihinleri karıştıracak sorulardan uzak durulmalıdır.

13. I. Bilimsel yazılar bilimsel buluşları iletme için yazılır.  
II. Bilimsel yazılarda öyküleyici ve betimleyici anlatıma sıkça başvurulur.  
III. Bilimsel yazıların makale, deneme, fıkra gibi türlere göre daha samimi bir üslubu vardır.  
IV. Bilimsel yazılarda başlık, okuyucu kitlesine ulaşması bakımından oldukça önemlidir.  
**Yukarıdaki numaralanmış cümlelerin hangilerinde bilgi yanlıştır vardır?**

- A) I ve II.                      B) I ve III.
- C) II ve III.                    D) III ve IV.

14. "Dipnot" terimi aşağıdaki cümlelerin hangisinde doğru tanımlanmıştır?

- A) Belli bir konu veya dönemle ilgili yayınları kapsayan eser
- B) Bir konu hakkındaki bilgilerin toplanması, analiz edilip duyurulması
- C) Sayfa içinde geçen herhangi bir düşünce ile ilgili sayfa altına konan açıklama
- D) Bir kitabın içindekileri yer numarasıyla belirten liste, dizin

15. Tartışmalarda dinleyicinin aşağıdakilerden hangisini yapması doğru olmaz?

- A) Konuşmacıyı dikkat ve saygıyla dinlemek
- B) Gerekli notlar alıp bunları taraf-sız bir şekilde değerlendirmek
- C) Gereken noktalarda katılımcılara sorular sormak
- D) Tartışmanın ağır havasını dağıtmak için konuyla ilgisiz noktalara dikkati çekmek

16. Aşağıdakilerden hangisi münazara hakem kurulunun değerlendirme esasları için doğru bir ölçüt değildir?

- A) Grup sözcüsünün görüşünün hakem kuruluyla uyuşup uyuşmadığı
- B) Konuşmacıların sözcükleri ve cümleleri doğru bir şekilde kullanıp kullanmadıkları
- C) Tartışmacıların beden dilini doğru bir şekilde kullanıp kullanmadıkları
- D) Konuşmacıların savunmalarında inandırıcı olup olmadıkları

17. I. Konuşmalardan sonra konuşmacılar birbirlerine konu ile ilgili soru sormazlar.  
II. Sempozyum bildirisi sempozyumun sonunda dinleyici topluluğu önünde okunur.  
III. Konuşmacılar metinlerini okuyucuyu sıkmadan ve konuyu dağıtmadan sunmalıdır.  
**Sempozyumla ilgili numaralanmış bu bilgiler doğru(D)-yanlış(Y) olarak değerlendirildiğinde sıralama aşağıdakilerden hangisi olur?**

	I	II	III
A)	D	D	Y
B)	Y	D	D
C)	Y	Y	D
D)	D	Y	Y

18. Konferansta dil - - - - kullanılırken söylevde genel olarak - - - - kullanılır.

**Bu cümlede boş bırakılan yerlere aşağıdakilerden hangileri sırasıyla getirilmelidir?**

- A) heyecana bağlı işleviyle – göndergesel işleviyle
- B) kanalı kontrol işleviyle – şiirsel işleviyle
- C) göndergesel işleviyle – alıcıyı harekete geçirme işleviyle
- D) alıcıyı harekete geçirme işleviyle – kanalı kontrol işleviyle

19. Aşağıdakilerden hangisi açık oturum başkanının görevlerinden değildir?

- A) Tartışmanın tarafı olarak kendi düşüncelerini ispatlamaya çalışmak
- B) Konuyu ortaya atarak soruları düzenli bir şekilde sormak
- C) Meydana gelebilecek tatsız ve çirkin saldırıları önlemek
- D) Oturum sonunda genel değerlendirme yapmak

20. Bu tartışma türü, özgür düşüncenin ve demokrasinin en önemli sonuçlarından biridir. İnsanlar hem konuşa konuşa anlaşırılar hem de tartışa tartışa birbirlerini tanıma imkânı bulurlar. Sonunda bir sonuca varırlar. Her ne kadar hakem heyeti bir grubu galip ilan etse de burada unutulmaması gereken nokta şudur ki tartışmada üstün gelme, galip çıkma değil; düşünceleri hoşgörüle karşılama esas olmalıdır.

**Bu parçada bahsedilen tartışma türü aşağıdakilerden hangisidir?**

- A) Münazara    B) Forum
- C) Açık oturum    D) Konferans

### (414) TÜRK EDEBİYATI – 4

1. Akıl bir meşaledir, kör için gözdür; ölü vücut için can, dilsiz için sözdür.

**Bu cümle Kutadgu Bilig kahramanlarından hangisine aittir?**

- A) Ay Toldı                      B) Kün Togdı
- C) Ögdilmiş                    D) Odgurmış

2. • Türk edebiyatında aruzla yazılan ilk eserdir.  
• 6645 beyitten oluşan bir mesnevidir.  
• Hakaniye Türkçesiyle kaleme alınmıştır.

**Bu bilgiler aşağıdaki eserlerin hangisine aittir?**

- A) Divanü Lügati't Türk
- B) Kutadgu Bilig
- C) Cemşid ü Hurşid
- D) Divan-ı Hikmet

## 1. OTURUM

3. Çok konuşma, sözü az ve birer söyle  
Yüz binin düğümünü bu bir sözde çözü

**Bu dizelerden aşağıdakilerin hangisine ulaşılamaz?**

- A) Az ve öz konuşulmalıdır.  
B) Sözü iyice düşünerek kullanmak gerekir.  
C) Söylenecek söz bir ihtiyacı karşılamalıdır.  
D) Konuşmalarda tonlamaya dikkat edilmelidir.

4. Eser, 102 dördlük ve kırk beyitten oluşur. Eserde edep, ahlak, töre ve dinî konularda öğütler verilmiştir. Geçiş Dönemi'nin özelliklerini tam anlamıyla yansıtan bir eserdir.

**Bu parçada tanıtılan eser aşağıdakilerden hangisidir?**

- A) Divanü Lügati't Türk  
B) Kutadgu Bilig  
C) Atabetü'l Hakayık  
D) Divan-ı Hikmet

5. Divanü Lügati't Türk ile ilgili olarak aşağıdaki bilgilerden hangisi yanlıştır?

- A) Türkçenin bilinen ilk sözlük çalışması olarak kabul edilmektedir.  
B) Siyasetnâme türünün edebiyatımızdaki ilk örneğidir.  
C) Kaşgarlı Mahmut tarafından kaleme alınmıştır.  
D) Araplara Türkçe öğretmek amacıyla yazılmıştır.

6. Tasavvuf düşüncesinin yaygın olduğu XIV. yüzyılda din dışı konularda şiirler yazdı. Kaside, gazel ve mesnevilerde aşk konusunu işledi. Divan edebiyatındaki mazmunların yerleşmesinde etkili oldu. Sanatçının Cemşid ü Hurşit adlı mesnevisi vardır.

**Bu parçada hakkında bilgi verilen sanatçı aşağıdakilerden hangisidir?**

- A) Ahmedî  
B) Hoca Dehhâni  
C) Yunus Emre  
D) Taşlıcalı Yahya

7. Aşağıdaki gazel ile ilahi karşılaştırmalarından hangisinde bilgi yanlıştır?

- A) İlahilerde hece, gazellerde ise aruz ölçüsü kullanılmıştır.  
B) İlahilerde dinî, gazellerde din dışı konular ele alınmıştır.  
C) İlahileri söyleyenler belliye gazeller anonim ürünlerdir.  
D) İlahilerde dördlük, gazellerde beyit kullanılmıştır.

8. Aşağıdakilerden hangisi halk edebiyatının destan geleneğine bağlı eserlerden biri değildir?

- A) Danişmendnâme  
B) Battalnâme  
C) İskendernâme  
D) Saltuknâme

9. Bir ön söz ve on iki hikâyeden oluşan eser Türk edebiyatında çok önemli bir yere sahiptir. Eser Türklerin o dönem örf, âdet, toplum ve aile yapısını bir kahraman etrafında çoğunlukla yiğitlik havasında yansıtır. Türk dilinin 13-14. yüzyıl özelliklerini yansıtmaya açısından da oldukça önemlidir. Ayrıca eser halk hikâyesi olarak değerlendirilse de büyük bir destan parçası görünümündedir.

**Bu parçada sözü edilen eser aşağıdakilerden hangisidir?**

- A) Battalnâme  
B) Danişmendnâme  
C) Cemşid ü Hurşit  
D) Dede Korkut Hikâyeleri

10. Aşağıdaki eser-sanatçı eşleştirmelerinden hangisi yanlıştır?

- A) Mantiku't Tayr – Gülşehri  
B) Harnâme – Süleyman Çelebi  
C) Hüsn ü Aşk – Şeyh Galip  
D) Risaletü'n Nushiyye – Yunus Emre

11. Mutasavvıf, şair ve "Bilginler Sultanı" olarak anılır. Eserlerinde hoşgörü ve iyiliği öğütler. En önemli eseri olan "Mesnevi"de ayetler, hadisler, şiir alıntıları ve kısa öykülerle Allah'a ulaşmanın yollarını anlatır.

**Bu parçada tanıtılan sanatçı aşağıdakilerden hangisidir?**

- A) Mevlâna B) Ahmedî  
C) Baki D) Nabi

12. Aşağıdakilerin hangisinde divan edebiyatı nazım şekilleri bir arada verilmiştir?

- A) gazel – koşma – şarkı – rubai  
B) mesnevi – kaside – gazel – tuyuğ  
C) semai – mesnevi – türkü – şarkı  
D) kaside – mâni – müstezat – ninni

13. Aşağıdakilerden hangisi divan edebiyatının özelliklerinden değildir?

- A) Aruz ölçüsü kullanılmıştır.  
B) Nazım birimi çoğunlukla beyittir.  
C) Tam ve zengin uyak tercih edilmiştir.  
D) Söz sanatları ve imgeden uzak durulmuştur.

14. I. İlk beytine "matla", son beytine "makta" adı verilir.  
II. Aşk, güzellik ve kadın konusunu işleyen lirik şiirlerdir.  
III. aa/bb/cc... şeklinde her beyit kendi arasında kafiyelidir.  
IV. Bütün beyitleri aynı güzellikte olanlara "yekâvaz gazel" denir.

**Numaralanmış cümlelerin hangisinde gazelle ilgili yanlış bilgi verilmiştir?**

- A) I. B) II. C) III. D) IV.

## 1. OTURUM

15. Yümn-i na'tünden güher olmuş  
Fuzûlî sözleri  
Ebr-i nîsândan dönen tek lülü-i  
şehvâra su  
(Günümüz Türkçesi: Seni övme-  
nin bereketinden dolayı Fuzûlî'nin  
sıradan sözleri nisan bulutundan  
düşüp iri inciye dönen su damlası  
gibi birer inci olmuştur.)

**Su Kasidesi'nden alınan bu be-  
yit, kasidenin aşağıdaki bölüm-  
lerinin hangisine aittir?**

- A) Nesîb      B) Girizgâh  
C) Tegazzül      D) Fahriye

16. XVII. yüzyıl sanatçılarından-  
dır. Lale Devri'nin İstanbul'unu  
yansıtan şiirleriyle tanınmıştır.  
Mahallileşme anlayışının temsil-  
cisi olan sanatçı, şarkı türünün  
ustası olarak kabul edilir.

**Bu parçada tanıtılan sanatçı  
aşağıdakilerden hangisidir?**

- A) Nedim      B) Nef'i  
C) Baki      D) Nabi

17. - - - -, bentlerle kurulan nazım  
şeklidir. Her bentte iki bölüm  
vardır. İlk bölüm olan terkiplane  
bölümü en az beş beyitten oluşur.  
Her terkiplanenin sonunda bent-  
leri birbirine bağlayan ve tek be-  
yitten oluşan ikinci bölüme vasıta  
adı verilir.

**Bu parçada boş bırakılan yere  
aşağıdakilerden hangisi getiril-  
melidir?**

- A) Mesnevi      B) Murabba  
C) Tuyuğ      D) Terkibibent

18. I. Güzelleme: Doğa ve insan gü-  
zelliklerini ele alan şiirlerdir.  
II. Taşlama: İnsan ve toplumun  
aksayan yönlerini eleştiren  
şiirlerdir.  
III. Koçaklama: Öğretici yönü ağır  
basan didaktik şiirlerdir.  
IV. Ağıt: Ölen kişi veya kişiler için  
söylenen şiirlerdir.

**Numaralanmış koşma türlerin-  
den hangisi yanlış açıklanmıştır?**

- A) I.      B) II.      C) III.      D) IV.

19. Aşağıdakilerden hangisi gölge  
oyununun kişileri arasında yer  
almaz?

- A) Çelebi  
B) Pişekâr  
C) Külhanbeyi  
D) Tuzsuz Deli Bekir

20. Aşağıdaki türlerden hangisi öğ-  
retici metin değildir?

- A) Seyahatnâme  
B) Tezkire  
C) Mektup  
D) Kaside

### (417) TÜRK EDEBİYATI – 7

1. Türk dilinin kaynaklarını, gelişi-  
mini bilimsel yöntemlerle ince-  
lemek amacıyla 1932'de oluş-  
turulan kurum aşağıdakilerden  
hangisidir?

- A) Türk Tarihi Tetkik Cemiyeti  
B) Türk Dili Tetkik Cemiyeti  
C) Köy Enstitüsü  
D) Tercüme Bürosu

2. Aşağıdaki sanatçılardan hangi-  
si Beş Hececiler topluluğunda  
yer almaz?

- A) Enis Behiç Koryürek  
B) Halit Fahri Ozansoy  
C) Faruk Nafiz Çamlıbel  
D) Mehmet Emin Yurdakul

3. "Anadolucu" ya da "memleketçi"  
edebiyat anlayışına ilk tepki  
aşağıdaki grupların hangisin-  
den gelmiştir?

- A) Maviciler  
B) Garipçiler  
C) İkinci Yeniciler  
D) Yedi Maşeleciler

4. I. Ahmet Hamdi Tanpınar şiirle-  
rinde ölüm, sonsuzluk, zaman,  
rüya gibi konuları işledi.  
II. Necip Fazıl Kısakürek içe dö-  
nük, maneviyatçı, bireyci şiirin  
örneklerini verdi.  
III. Cahit Sıtkı Tarancı, şiirleriyle  
millî bilinci oluşturmaya çalış-  
mıştır.  
IV. Ömer Bedrettin Uşaklı, şiirle-  
rinde en çok deniz temasını  
işlemiştir.  
V. Ziya Osman Saba, şiirlerinde  
misticizm ile tasavvufu birleş-  
tirmiştir.

**Yukarıda numaralanmış bilgi-  
lerin hangilerinde bilgi yanlış  
vardır?**

- A) I ve II.      B) II ve IV.  
C) III ve V.      D) IV ve V.

5. Aşağıdakilerden hangisi Garip  
topluluğunda yer almış sanatçı-  
lardandır?

- A) Orhan Seyfi Orhon  
B) Cahit Sıtkı Tarancı  
C) Kenan Hulusi Koray  
D) Melih Cevdet Anday

6. Aşağıdaki eser-sanatçı eşleştir-  
melerinden hangisi yanlıştır?

- A) Büyük Saat – Edip Cansever  
B) Sisler Bulvarı – Attila İlhan  
C) Kaldırımlar – Necip Fazıl  
Kısakürek  
D) Han Duvarları – Faruk Nafiz  
Çamlıbel

7. II. Dünya Savaşı'ndan sonra  
yetişen hikâye ve roman yazarla-  
rımızdandır. Eserlerinde tabiat ve  
insan sevgisi ağır basar. Romanı  
destana yaklaştıran sanatçının  
"Ölmez Otu" adlı romanı önemli  
eserlerindedir.

**Bu parçada tanıtılan sanatçı  
aşağıdakilerden hangisidir?**

- A) Yaşar Kemal  
B) Kemal Tahir  
C) Haldun Taner  
D) Orhan Pamuk

## 1. OTURUM

8. Cumhuriyet Dönemi hikâye ve romanı için aşağıdakilerden hangisi söylenebilir?

- A) Teknik açıdan oldukça başarılı eserler ortaya konmuştur.
- B) Parnasizm ve sembolizm akımlarının etkisi görülür.
- C) Toplumsal değil bireysel konular ele alınmıştır.
- D) Sade ve anlaşılır bir dil kullanılmıştır.

9. Toplumdaki hızlı değişimin ekonomik nedenlerden çok ahlaki sonuçları üzerinde duran Necip Fazıl Kısakürek; ----, ----, ---- gibi tiyatro eserlerinde manevi değerlerimizin yitirilme ve bu değerlere sahip çıkılması gerektiğini işlemiştir.

**Bu cümlede boş bırakılan yerlere aşağıdakilerden hangisi getirilemez?**

- A) Tohum
- B) Künye
- C) Kadınlar Arasında
- D) Bir Adam Yaratmak

10. Aşağıdaki eserlerden hangisi Güngör Dilmen'e aittir?

- A) Cengiz Han'ın Bisikleti
- B) Midas'ın Kulakları
- C) Ay Işığında Şamata
- D) Sokrates'in Savunması

11. Anadolu köy seyirlik oyunlarını ve geleneksel popüler halk tiyatrosunu çağdaş sanatsal etkinlikleri besleyecek önemli kaynaklar olarak değerlendiren sanatçının "Koçyiğit Köroğlu" ve "Köşebaşı" önemli tiyatro eserlerindedir.

**Bu parçada söz edilen sanatçı aşağıdakilerden hangisidir?**

- A) Oktay Rifat Horozcu
- B) Ahmet Kutsi Tecer
- C) Reşat Nuri Güntekin
- D) Memduh Şevket Esenal

12. Aşağıdaki eser – tür eşleştirmelerinden hangisi yanlıştır?

- A) Keşanlı Ali Destanı – tiyatro
- B) Anayurt Otel – roman
- C) Otuz Beş Yaş – şiir
- D) Mavi Sürün – hikâye

13. Çağdaş Türk edebiyatında öykü ve roman, gerçekliğin yorumlarına bağlı olarak tek bir çizgide gelişmiştir. (I) Sabahattin Ali toplumsal çizgiyi geliştirir. (II) Sait Faik Abasıyanık ise toplumsal sorunlardan çok aydın bireyin küçük dünyasına yönelen duyarlılığıyla yeni bir öykü anlayışı getirmiştir. (III) Samim Kocagöz kasaba insanların sorunlarını gerçekçi bir tutumla yansıtmıştır. (IV) Orhan Kemal geçmiş özlemiyle yüklü, bireyci eserleriyle ön plana çıkmıştır.

**Bu parçada numaralanmış cümlelerin hangisinde bilgi yanlışı vardır?**

- A) I. B) II. C) III. D) IV.

14. Cumhuriyet Dönemi'nde mizah edebiyatı güldürürken düşündürmeyi amaçlayan bir mizah anlayışıyla yepyeni boyutlar kazanmıştır. Bu alanda ----, ----, ---- gibi yazarlar başarılı eserler vermişlerdir.

**Bu parçada boş bırakılan yerlere aşağıdakilerden hangisi getirilemez?**

- A) Aziz Nesin
- B) Nazım Hikmet
- C) Rıfat Ilgaz
- D) Muzaffer İzgü

15. Aşağıdakilerden hangisi II. Yeni şiirinin sanatçıları arasında sayılamaz?

- A) Ahmet Muhip Dırnas
- B) Cemal Süreya
- C) Edip Cansever
- D) Turgut Uyar

16. Yazarın herhangi bir konu üzerinde kesin hükümlere varmadan kendi kişisel görüş ve düşüncelerini anlattığı öğretici metinlere ---- adı verilir.

**Bu cümlede boş bırakılan yere aşağıdakilerden hangisi getirilmelidir?**

- A) makale B) hatıra
- C) deneme D) gezi yazısı

17. Aşağıdakilerden hangisi makalenin özelliklerinden değildir?

- A) Anlatım yalın ve yoğun olmalıdır.
- B) İleri sürülen düşünceler kanıtlanmalıdır.
- C) Güncel konularla ilgili olmak zorundadır.
- D) Okurun ulaşması istenen sonuç mutlaka vurgulanmalıdır.

18. Aşağıdakilerden hangisi ilk resmî gazetedir?

- A) Takvim-i Vakayi
- B) Ceride-i Havadis
- C) Tercüman-ı Ahval
- D) Tercüman-ı Hakikat

19. Aşağıdaki eserlerden hangisi tür yönüyle diğerlerinden farklıdır?

- A) Anadolu Notları
- B) Pasifik Kıyıları
- C) Karalama Defteri
- D) Frankfurt Seyahatnamesi

20. I. Bilimsel gerçekleri ortaya koyma zorunluluğu yoktur.  
II. Estetik bir zevk uyandırmak amacıyla kaleme alınır.  
III. Okuyucuyu uyarmak ve düşünmeye yöneltmek amaçlanmaz.  
IV. Yaşanılan olaylarla ilgili duygu ve düşünceler günü gününe yazılır.

**Yukarıda numaralanmış özelliklerden hangileri fıkra türüne aittir?**

- A) I ve III. B) II ve III.
- C) II ve IV. D) III ve IV.



## 1. OTURUM

### (418) TÜRK EDEBİYATI – 8

1. I. Şiirsel söyleyişe, süslü ve sanatlı anlatıma önem vermek  
II. Günlük hayatın sorunlarını dile getirmek  
III. Ölçü, uyak gibi biçimsel öğelere sıkı sıkıya bağlı olmak  
IV. Yaşama sevinçli ve yaşama hakkını işlemek
- Yukarıda numaralanmış ilkelere hangisi Garipçilerin şiir anlayışına uymaz?**

- A) I ve III. B) II ve III.  
C) II ve IV. D) III ve IV.

2. Türk hikâye ve romanı 1930'lara kadar - - - etkisinde gelişmiş, 1930'dan sonra - - - yönelmiştir.
- Bu cümlede boş bırakılan yerlere aşağıdakilerden hangileri sırasıyla getirilmelidir?**

- A) Fecriati – postmodern bir anlayışa  
B) Tanzimat – benmerkezci bir anlayışa  
C) Millî Edebiyat – toplumcu gerçekçi çizgiye  
D) Servetifünûn – modernist bir çizgiye

3. Bu roman Peyami Safa'nın birey ruhuna ayna tuttuğu başarılı bir psikolojik romandır. Olaylar, gönül ilişkileri, hastalık, muayeneler, tartışmalar, ümitler, acılar, sevinçler ayrıntılarıyla okura aktarılmaktadır. Romanda hastalık, üzerinde durulan asıl konudur. Hastalıktan sonraki tema roman kahramanının Nüzhet'e duyduğu aşktır.
- Bu parçada söz edilen roman aşağıdakilerden hangisidir?**

- A) Eylül  
B) Zehra  
C) Mai ve Siyah  
D) Dokuzuncu Hariciye Koğuşu

4. Aşağıdakilerden hangisi II. Yeni anlayışına sahip şairlerden biridir?

- A) Necip Fazıl Kısakürek  
B) Cemal Süreya  
C) Attila İlhan  
D) Fazıl Hüsnü Dağlarca

5. Bu vatan toprağın kara bağrında  
Sıradağlar gibi duranlarındır  
Bir tarih boyunca onun uğrunda  
Kendini tarihe verenlerindir
- Bu dörtlük konusuna ve biçim özelliklerine göre incelendiğinde aşağıdaki şiir anlayışlarından hangisiyle kaleme alınmıştır?**

- A) Millî Edebiyat zevk ve anlayışını sürdüren şiir  
B) Öz şiir anlayışını sürdüren şiir  
C) Garip hareketi  
D) II. Yeni şiiri

6. "Kimi insan otların kimi insan balıkların çeşidini bilir/ben ayrılıkları/ kimi insan ezbere sayar yıldızların adını/ben hasretlerin" diyen sanatçının "Şeyh Bedrettin Destanı" adlı şiiri, şiirde bir dönüm noktası olur. Bu, sanatçının epik şiirle birlikte kendi toprağının kültüründen geniş ölçüde yararlanmaya başladığı bir dönemdir. "Kuvayı Millîye Destanı ve Memleketimden İnsan Manzaraları" gibi eserlerinde hayata, topluma daha geniş ve gerçekçi bir açıdan bakar.

**Bu parçada hakkında bilgi verilen sanatçı aşağıdakilerden hangisidir?**

- A) Cahit Sıtkı Tarancı  
B) Behçet Necatigil  
C) Ece Ayhan  
D) Nazım Hikmet

7. Yaşanmış ya da yaşanması mümkün olaylar bu türün konusudur. Olay, mekân, zaman ve kişi öğeleri vardır. Romana göre daha kısa bir türdür. Kahramanlar bir ya da birkaç kişidir. Genelde tek bir olay çevresinde gelişen bu türde kahramanların kişilikleri derinlemesine incelenmez.

**Bu parçada sözü edilen tür aşağıdakilerden hangisidir?**

- A) Masal B) Hikâye  
C) Fabl D) Destan

8. Aşağıdakilerden hangisi toplumcu gerçekçi romanlardan biridir?

- A) Huzur  
B) Yaban  
C) Kuyucaklı Yusuf  
D) Sinekli Bakkal

9. Boğazından lıkır lıkır geçen  
Şu suyun kıymetini bil  
Nedir ki bu mavilik deme  
Pencereden görebildiğin kadar  
Göğün kıymetini bil
- Bu dizeler biçim ve içerik özellikleri göz önünde bulundurulduğunda aşağıdaki şiir anlayışlarının hangisiyle kaleme alındığı söylenir?**

- A) Garip (I. Yeni)  
B) Öz Şiir  
C) Millî Edebiyat Zevk ve Anlayışını Sürdüren Şiir  
D) Halk edebiyatı

10. Aşağıdakilerden hangisi Cumhuriyet Dönemi'nin önemli deneme yazarlarından biridir?

- A) Orhan Veli Kanık  
B) Nazım Hikmet  
C) Nurullah Ataç  
D) Mehmet Âkif Ersoy

11. Aşağıdakilerden hangisi Beş Hececiler'den biri değildir?

- A) Faruk Nafiz Çamlıbel  
B) Yusuf Ziya Ortaç  
C) Orhan Seyfi Orhon  
D) Yahya Kemal Beyatlı

12. Cumhuriyet Dönemi halk şiirinin en önemli temsilcilerindendir. Yedi yaşında çiçek hastalığı nedeniyle gözlerini yitirdi. Kalan yetmiş iki yıllık hayatını kendi iç aydınlığını çoğaltarak geçirdi. Yerel sözcüklerle süslediği şiirlerini sade bir Türkçe ile geleneksel nazım biçimleri olan koşma, semai, destan şeklinde söyledi. "Dostlar Beni Hatırlasın" en önemli eseridir.
- Bu parçada tanıtılan sanatçı aşağıdakilerden hangisidir?**

- A) Âşık Feymani  
B) Âşık Veysel  
C) Mahsuni Şerif  
D) Murat Çobanoğlu

## 1. OTURUM

13. Aşağıdakilerden hangisi 1980 sonrası şiir anlayışı için doğru bir bilgi değildir?

- A) Konu; yapı ve söyleyişten daha fazla öne çıkarılmıştır.
- B) Türk şiirini yeniden değerlendirme çabaları vardır.
- C) Büyük şehirdeki insanın yabancılaşması üzerinde sıkça durulmuştur.
- D) Şairlerin yeni imgelerin peşinden koştuğu bir dönemdir.

14. I. Cahit Külebi  
II. Atıf Behramoğlu  
III. İsmet Özel  
IV. Orhan Seyfi Orhon  
**Numaralanmış sanatçılardan hangileri II. Yeni sonrası toplumcu şiirin temsilcilerindendir?**

- A) I ve II. B) I ve III.
- C) II ve III. D) III ve IV.

15. Garip akımı dışında yeniliği sürdüren şairler arasında aklımıza ilk olarak ----, ----, ---- gibi isimler gelir.  
**Bu cümlede boş bırakılan yerlere aşağıdakilerden hangisi getirilemez?**

- A) Cahit Külebi
- B) Fazıl Hüsnü Dağlarca
- C) Attila İlhan
- D) Melih Cevdet Anday

16. Aşağıdakilerden hangisi Garip akımının şairlerinden biridir?

- A) Orhan Veli Kanık
- B) Yusuf Ziya Ortaç
- C) Ziya Osman Saba
- D) Ahmet Hamdi Tanpınar

17. Aşağıdaki sanatçılardan hangisi köye ve köy gerçeklerine yönelen, Anadolu'daki işçilerin, çiftçilerin sorunlardan bahseden toplumcu gerçekçi yazarlardan biri değildir?

- A) Kemal Tahir
- B) Yaşar Kemal
- C) Orhan Kemal
- D) Yahya Kemal

18. Oğuz Atay'ın bu romanı ele aldığı konu, konuyu işleyiş tarzı ve iç monolog, bilinç akışı, alıntı gibi yeni anlatım tekniklerini kullanması bakımından dikkate değer. Atay bu romanında birtakım dinsel ve mitolojik öğelerden de yararlanarak yerleşik düzenin değer yargılarıyla, zevkleriyle, yaşama biçimleriyle uzlaşmayan, topluma yabancılaşmış insanların yaşamını anlatır.  
**Bu parçada sözü edilen Oğuz Atay romanı aşağıdakilerden hangisidir?**

- A) Beş Şehir
- B) Kara Kitap
- C) Tutunamayanlar
- D) Kısmet Büfesi

19. • Ercüment Behzat Lav ve Nazım Hikmet'in öncüsü olduğu bir anlayıştır.  
• Bu anlayışta aruz ve heceyi reddedilerek yeni bir biçim ve söyleyişe ulaşma arzusu görülür.  
• Özellikle fütürizm akımının etkisi şiirde kendisini gösterir.  
**Bu özellikler aşağıdaki şiir anlayışlarının hangisine aittir?**

- A) Öz Şiir
- B) Serbest Nazım ve Toplumcu Şiir
- C) II. Yeni
- D) Garip (I. Yeni)

20. - İkinci Yeni'ye has dil ve söylem özelliklerini kullanarak İslam dinini esas alan konulara yöneldi.  
- İslam mitolojisini kucaklayan sanatçının şiirinin sağlam bir metafizik zemini vardır.  
- O, şiir dilindeki semboller aracılığıyla geleneği bugüne ve geleceğe taşır.

**Özellikleri verilen II. Yeni sanatçısı aşağıdakilerden hangisidir?**

- A) Ece Ayhan
- B) Turgut Uyar
- C) Sezai Karakoç
- D) Cemal Süreya

### (421) FİZİK – 1

1. I. Manyetizma  
II. Nükleer fizik  
III. Katı hâl fiziği  
IV. Termodinamik

**Yukarıdaki verilenlerden hangileri fizik biliminin alt alanıdır?**

- A) I ve II B) II, III ve IV
- C) I, II ve III D) I, II, III ve IV

2. Günlük hayatımızı kolaylaştırmak için farklı teknolojiler ortaya çıkmıştır.

**Buna göre otomobil için;**

- I. Klima ve havalandırma ⇒ ISI
- II. Arabanın ışık farı ve oto camı ⇒ DALGALAR
- III. Akü ve Marş ⇒ ELEKTRİK

**verilen örneklerden hangileri fizik uygulama alanları ile doğru verilmiştir?**

- A) Yalnız I B) Yalnız III
- C) I ve II D) I ve III

3. Fiziğin diğer bilim dalları ile etkileşmesi sonucunda birden fazla bilim dalının ortak çalıştığı yeni bilim dalları ortaya çıkmıştır.

**Buna göre;**

- I. Biyoloji ile biyofizik
- II. Kimya ile fizikokimya
- III. Jeoloji ile jeofizik

**verilen örneklerden hangileri doğru verilmiştir?**

- A) Yalnız I B) Yalnız III
- C) I ve II D) I, II ve III

4. Ali fizik laboratuvarında kalınlığı 1 mm'den küçük metal levhayı ölçmek istiyor.

**Buna göre;**

- I. Kumpas
- II. Cetvel
- III. Mezura
- VI. Termometre

**verilen ölçü aletlerinden hangisini kullanırsa doğru bir ölçüm yapmış olur?**

- A) I B) II C) III D) IV

## 1. OTURUM

5. Mehmet fiziksel büyüklükleri ölçmek için verilen ölçme araçları kullanıyor.

	Fiziksel Büyüklük	Ölçme Araçları
I.	Kuvvet	Dinamometre
II.	Sıcaklık	Barometre
III.	Zaman	Kronometre
IV.	Kütle	Eşit kollu terazi

Mehmet verilenlerden hangisinde **yanlış** ölçüm aracı kullanmıştır?

- A) I B) II C) III D) IV

6. Ayşe fiziksel hesaplamalarında verilen birimleri kullanıyor.

- I. Metre küp ( $m^3$ )  
II. Saniye (s)  
III. Amper (A)  
IV. Kandela (cd)

Buna göre hangisi türetilmiş bir büyüklüktür?

- A) I B) II C) III D) IV

7. Fiziksel büyüklükler skaler ve vektörel olarak ikiye ayrılır.

Buna göre ;

- I. Paraşütle atlayan Ali'nin düşme hızı sabit 3 m/s dir.  
II. Bir elmanın ağırlığı dinamometre ile ölçünce 0,5 N dur.  
III. Bugün ölçülen Ankara'nın sıcaklığı 25 °C dir.  
IV. Bir boksörün vuruş kuvvetini büyüklüğü 1000 N dur.

verilen örneklerden kaç tanesi vektörel büyüklüktür?

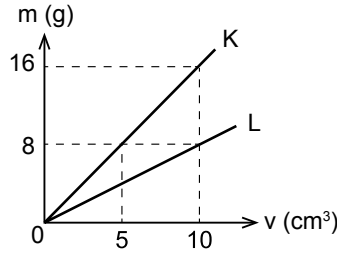
- A) 1 B) 2 C) 3 D) 4

8. 5000  $cm^3$  hacimli zeytin yağının özkütlesi 0,8  $gr/cm^3$  olduğuna göre zeytin yağının kütlesi kaç kg'dır?

- A) 5 B) 4 C) 3 D) 2

9. Sabit sıcaklıkta K ve L maddelerinin kütle- hacim grafiği şekildeki gibi verilmiştir.

Buna göre;



K'nin yoğunluğu  $d_K$  ve L'nin yoğunluğu  $d_L$  olduğuna göre  $d_K/d_L$  oranı nedir?

- A) 0,8 B) 1,6 C) 1 D) 2

10. Bir iş makinası kepçesi 500 kg kum almaktadır.

Buna göre 10 tonluk bir kamyon kasası kaç kepçe kum ile doldurulur?

- A) 20 B) 10 C) 5 D) 2

11. Sıvılar akışkandır. Buldukları kabin şeklini alırlar. Fatma fizik laboratuvarında yağın hacmini ölçmek istiyor.

Verilen ölçü aletlerinden hangisini kullanarak doğrudan ölçebilir?

- A) Dinamometre  
B) Eşit Kollu Terazi  
C) Dereceli Silindir  
D) Şerit Metre

12. Bir binanın dayanıklılığını artırmak için;

- I. Kolonların kesit alanını artırmak  
II. Kolonların sayısını artırmak  
III. Bina'nın yüksekliğini artırmak
- verilen ifadelerden hangisini ayrı ayrı yaparsak dayanıklılığını artırabiliriz?

- A) Yalnız I B) Yalnız III  
C) I ve II D) I, II ve III

13. Ahmet deney olarak su içerisinde metal atacı yüzdürmek istiyor.

Buna göre;

- I. Suya bulaşık deterjanı atmak  
II. Suyun sıcaklığını artırmak  
III. Suyun içine tuz atmak

Ahmet işlemlerinden hangilerini yaparsa metal ataç su yüzünde yüzdürülebilir?

- A) Yalnız I B) Yalnız III  
C) I ve II D) I, II ve III

14. Evren'in (Kâinat) % 98 yaklaşık plazmadır.

Buna göre;

- I. Güneş  
II. Ay  
III. Kutup Yıldızı

verilen örneklerden hangileri plazma değildir?

- A) Yalnız I B) Yalnız II  
C) I ve II D) I, II ve III

15. Hareketi başlatan, hareketin hızını değiştiren veya cisimlerde şekil değişikliğine sebep olan etki kuvvet olarak tanımlanır.

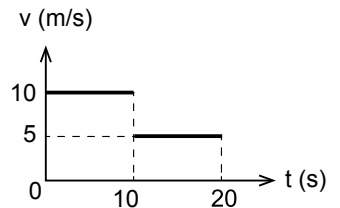
Buna göre;

- I. Mıknatısın toplu iğneleri çekmesi  
II. Ağaçtan cevizin yere düşmesi  
III. Pusulanın ibresinin dönmesi  
IV. Rüzgârın yelkenli gemiyi hareket ettirmesi

verilen ifadelerden kaç tanesi temas gerektirmeyen kuvvettir?

- A) 1 B) 2 C) 3 D) 4

- 16.



Şekildeki gibi hız - zaman grafiği verilen bir araba için 20 s'de aldığı yol kaç metredir?

- A) 150 B) 100  
C) 50 D) 0 (Sıfır)

## 1. OTURUM

17. Hareketi cisimlerin bir yol boyunca yerlerini değiştirmeleri olarak tanımlarız.

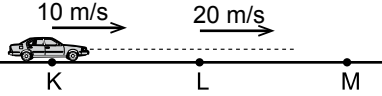
**Hareket çeşitlerine göre;**

- I. Bir kayıkçının kayık ile yüzererek bir yönde ilerlemesi
- II. Lunaparkta dönme dolabın hareketi
- III. Müzik aleti saz telinin hareketi

**yukardaki ifadelerden hangilerinde titreşim hareketi vardır?**

- A) Yalnız I      B) Yalnız III  
C) I ve II      D) I, II ve III

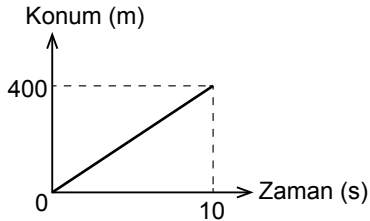
18. Bir araba şekildeki gibi doğrusal yolda 10 m/s sabit hızla K dan L ye 5 saniyede, 20 m/s sabit hızla L'den M'ye 5 saniyede hareket ediyor.



**Buna göre arabanın 10 saniyede aldığı yol kaç m'dir?**

- A) 50    B) 150    C) 200    D) 250

19. Bir otomobilin Konum - Zaman grafiği şekildeki gibidir.



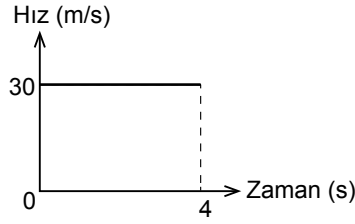
**Buna göre otomobil için;**

- I. Aldığı yol 400 m dir.
- II. Sürati 40 m/s dir.
- III. Hızı 4 m/s dir.

**verilen ifadelerden hangileri doğrudur?**

- A) Yalnız I      B) Yalnız II  
C) I ve II      D) I, II ve III

20. Düz bir yolda hareket eden kamyonun hız - zaman grafiği şekildeki gibidir.

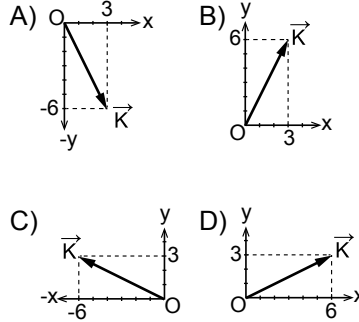


**Kamyon 4 saniye sonunda kaç metre yol almıştır?**

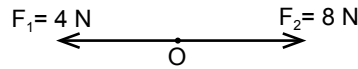
- A) 150    B) 120    C) 90    D) 50

### (425) FİZİK – 5

1.  $\vec{K}(3,-6)$  vektörünün koordinat sistemindeki vektör gösterimi aşağıdakilerden hangisidir?

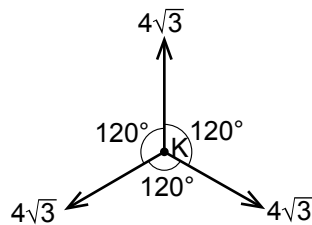


2. Şekildeki O noktasına etki eden kuvvetlerin bileşkesi kaç Newtondur?



- A) 14    B) 12    C) 4    D) 2

3. K noktasal cisminde şekildeki kuvvetler aynı anda uygulanıyor.

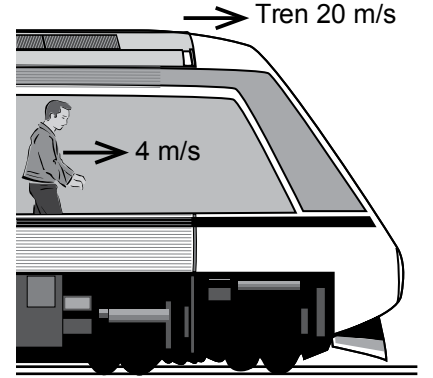


**Buna göre bileşke kuvvetin büyüklüğü kaç Newtondur?**

( $\cos 60^\circ = \frac{1}{2}$ ,  $\sin 60^\circ = \frac{\sqrt{3}}{2}$ )

- A) 12      B)  $8\sqrt{3}$   
C)  $2\sqrt{2}$     D) 0 (sıfır)

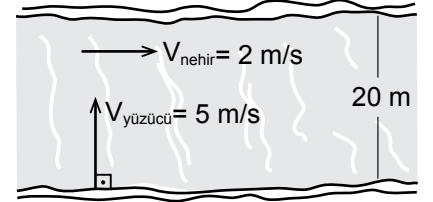
4. Şekildeki tren yere göre doğuya doğru 20 m/s hızla hareket ederken tren içindeki yolcuya trene göre doğuya doğru 4 m/s hızla hareket ediyor.



**Buna göre trendeki yolcunun yere göre hızı kaç m/s'dir?**

- A) 10    B) 12    C) 16    D) 24

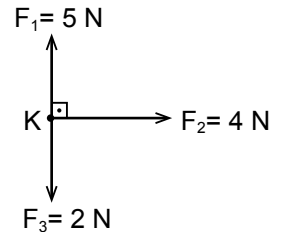
5. Akıntı hızı 2 m/s olan bir nehirde hızı suya göre 5 m/s olan bir yüzücü nehrin akış yönüne dik olarak yüzyor.



**Nehrin genişliği 20 m olduğuna göre yüzücünün karşı kıyıya varma süresini bulunuz?**

- A) 2,5    B) 4    C) 7    D) 10

6. K noktasal cisminde sürtünmesiz ortamda aynı anda şekildeki kuvvetler uygulanıyor.



**Buna göre K'ya etki eden net kuvvet kaç Newtondur?**

- A) 9    B) 7    C) 5    D) 1

## 1. OTURUM

7. Sürtünmesiz ortamda durmakta olan 50 kg'lık şekildeki cisme 80 N'luk kuvvet uygulanıyor.



Buna göre cismin 10 s sonraki hızı kaç m/s olur?

- A) 160 B) 16  
C) 1,6 D) 0,16

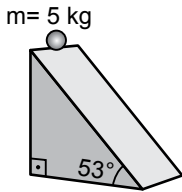
8. Bir cismin üzerine etki eden net kuvvet sıfırdan farklı ise:

- I. Cisim ivmeli hareket yapar.  
II. İvmenin yönü net kuvvet ile aynı yönlüdür.  
III. Net kuvvet cismin ivmesi ile kütesinin çarpımıdır.

yargılarından hangileri doğrudur?

- A) Yalnız I B) I ve II  
C) II ve III D) I, II ve III

9. Sürtünmesiz eğik düzlemin tepesinde bulunan 5 kg'lık demir bilye durgun halden harekete başlıyor ve aşağıya iniyor.



Buna göre demir bilyenin ivmesi kaç  $m/s^2$  dir?

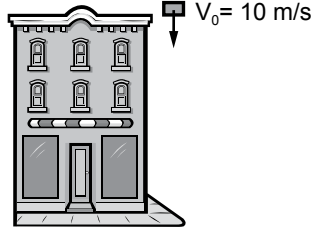
( $\sin 53^\circ = 0,8$   $g = 10 m/s^2$ )

- A) 8 B) 4 C) 1 D) 0,2

10. Hava sürtünmesinin ihmal edildiği bir ortamda 125 m yükseklikten serbest bırakılan demir bilye yere kaç saniyede düşer? ( $g = 10 m/s^2$ )

- A) 10 B) 8 C) 5 D) 2

11. Bir evin çatısından aşağıya doğru 10 m/s hızla atılan cisim 1 s'de yere düşüyor.



Buna göre cisim kaç metre yükseklikten atılmıştır?

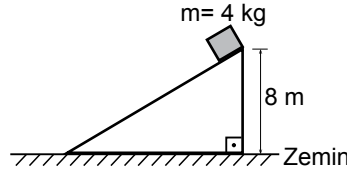
( $g = 10 m/s^2$  ve hava sürtünmesi ihmal ediliyor.)

- A) 20 B) 15 C) 10 D) 4

12. Bir cismin sahip olduğu kinetik ve potansiyel enerjilerinin toplamına ne ad verilir?

- A) Mekanik enerji  
B) Sürtünme enerjisi  
C) Kimyasal enerji  
D) Işık enerjisi

13. Yüksekliği 8 m olan şekildeki eğik düzlemin tepesinde bulunan 4 kg'lık cismin yere göre sahip olduğu potansiyel enerji kaç jouledür? ( $g = 10 m/s^2$ )



- A) 640 B) 320  
C) 478 D) 580

14. Sürtünme katsayısının 0,4 olduğu ortamda yatay düzlemde durmakta olan şekildeki 2 kg'lık cisme düzleme paralel olarak F kuvveti uygulanıp cisim 8 metre yol alıyor.

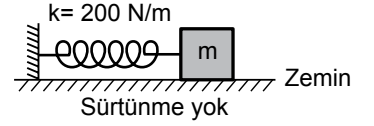


Buna göre sürtünme kuvvetinin yaptığı iş kaç jouledür?

( $g = 10 m/s^2$ )

- A) 64 B) 32 C) 16 D) 4

15. Yay sabiti 200 N/m olan yayın ucuna m kütleli cisim bağlanıp yay 10 cm sıkıştırılıyor.



Buna göre yayda depolanan potansiyel enerji kaç jouledür?

- A) 0,1 B) 1 C) 2 D) 20

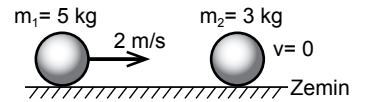
16. Toplam kütlesi 7200 kg olan bir kamyonun 20 m/s hızla hareket ederken sahip olduğu momentum kaç kg.m/s dir?

- A) 360 000 B) 250 000  
C) 144 000 D) 7200

17. Yüksekliği 45 m olan bir yerden bırakılan ve serbest düşme hareketi yapan 1 kg'lık demir bilyenin yere çarpma hızı kaç m/s'dir? ( $g = 10 m/s^2$  ve hava sürtünmesi ihmal ediliyor.)

- A) 30 B) 20 C) 15 D) 9

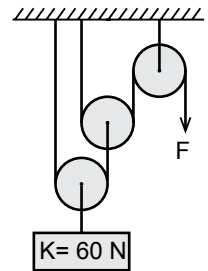
18. Sürtünmesiz yatay bir düzlemde 2 m/s hızla hareket eden 5 kg kütleli cisim durmakta olan 3 kg kütleli cisim ile merkezi esnek olmayan çarpışma yapıyor.



Buna göre çarpışmadan sonra cisimlerin ortak hızı kaç m/s'dir?

- A)  $\frac{1}{5}$  B)  $\frac{2}{3}$  C)  $\frac{5}{4}$  D)  $\frac{7}{2}$

19. Şekildeki makaralar özdeş ve her birinin ağırlığı 20 N'dur.



Buna göre 60 N'luk K yükünü dengeleyen F kuvveti kaç N'dur?

- A) 80 B) 50 C) 30 D) 20

## 1. OTURUM

### 20. Basit makinelere;

- I. Palangalar
- II. Çıkrık
- III. Eğik düzlem

yukarıdakilerden hangileri örnek olarak verilir?

- A) Yalnız I
- B) II ve III
- C) I ve III
- D) I, II ve III

(432) KİMYA – 2

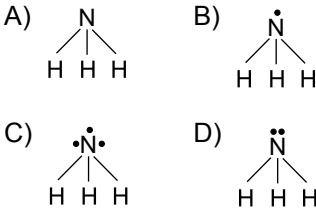
1. Bazı kimyasal türlerin sembol ve formülleri aşağıda verilmiştir.

Ca <sup>2+</sup>	OH <sup>-</sup>
N	Fe
SO <sub>3</sub>	P <sub>2</sub> O <sub>3</sub>

Buna göre verilen kimyasal türlerden hangileri molekül sınıfına girer?

- A) Ca<sup>2+</sup>, OH<sup>-</sup>
- B) N, Fe
- C) SO<sub>3</sub>, P<sub>2</sub>O<sub>3</sub>
- D) Fe, Ca<sup>+2</sup>

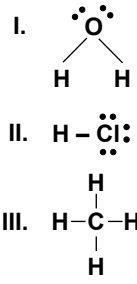
2. NH<sub>3</sub> molekülünün Lewis formülü aşağıdakilerin hangisinde doğru gösterilmiştir? (1H, 7N)



3. Aşağıdakilerin hangisi kimyasal türler arası güçlü etkileşimlerden biridir?

- A) İndüklenmiş dipol bağları
- B) Kovalent bağ
- C) Dipol- dipol bağları
- D) Hidrojen bağları

4.



Verilen moleküllerden hangileri kendi molekülleri arasında hidrojen bağı oluşturabilir?

- A) Yalnız I
- B) Yalnız II
- C) I ve II
- D) II ve III

5. Aşağıdakilerden hangisi iyonik bağı bir bileşiktir? (7N, 8O, 11Na)

- A) N<sub>2</sub>O<sub>5</sub>
- B) Na<sub>2</sub>O
- C) NO<sub>2</sub>
- D) NO

6. I. <sup>13</sup>Al  
II. <sup>16</sup>S  
III. <sup>19</sup>K

Verilen elementlerden hangilerinin atomları arasında metalik bağlar bulunur?

- A) Yalnız I
- B) Yalnız III
- C) I ve II
- D) I ve III

7. Aşağıda verilen taneciklerden hangisinde atomlar arasında polar kovalent bağ bulunur? (1H, 7N, 8O, 11Na, 17Cl, 20Ca)

- A) HCl
- B) N<sub>2</sub>
- C) CaO
- D) NaCl

8. Aşağıda verilen olaylardan hangisinde kimyasal değişim olmaz?

- A) Odunun yanması
- B) Suyun donması
- C) Demirin paslanması
- D) Elmanın çürümesi

9. Fe + O<sub>2</sub> → Fe<sub>2</sub>O<sub>3</sub>

tepkimesi en küçük tam sayılarla denkleştirildiğinde Fe elementinin katsayısı kaç olur?

- A) 1
- B) 2
- C) 3
- D) 4

10. Aşağıdaki tepkimelerden hangisi yanma tepkimesidir?

- A) H<sub>2</sub> + Br<sub>2</sub> → 2HBr
- B) HCl + NaOH → NaCl + H<sub>2</sub>O
- C) 2HgO → 2Hg + O<sub>2</sub>
- D) CH<sub>4</sub> + 2O<sub>2</sub> → CO<sub>2</sub> + 2H<sub>2</sub>O

11. I. 1 litre = 1000 mL  
II. 1 litre = 1000 cm<sup>3</sup>  
III. 1 litre = 1 dm<sup>3</sup>

Yukarıda verilen hacim ile ilgili birim dönüşümlerinden hangisi doğrudur?

- A) Yalnız I
- B) I ve II
- C) II ve III
- D) I, II ve III

12. Bir gazın kapalı bir kapta yapmış olduğu basınç 1520 mmHg olarak ölçülmüştür.

Buna göre bu gazın basıncı kaç atm'dir?

- A) 0,2
- B) 2
- C) 20
- D) 200

13. 4,4 gram CO<sub>2</sub> gazı kaç moldür? (C = 12 g/mol, O = 16 g/mol)

- A) 10
- B) 1
- C) 0,1
- D) 0,01

14. 2 mol CaCO<sub>3</sub> bileşiğinde kaç tane C atomu vardır? (Avogadro sayısı = 6 · 10<sup>23</sup> alınız)

- A) 6 · 10<sup>23</sup>
- B) 12 · 10<sup>23</sup>
- C) 18 · 10<sup>23</sup>
- D) 36 · 10<sup>23</sup>

15. Sabit sıcaklıktaki bir gazın 2 atm basınçta hacmi 36 litre olarak ölçülüyor.

Bu gazın miktarı ve sıcaklığı değiştirilmeden basıncı 4 atm yapılırsa, hacmi kaç litre olur?

- A) 9
- B) 18
- C) 36
- D) 72

## 1. OTURUM

16. Sabit basınçlı bir kaptaki  $27^{\circ}\text{C}$ 'ta bir miktar gazın hacmi 200 mL'dir. Gazın sıcaklığı  $t^{\circ}\text{C}$ 'a çıkarıldığında hacmi 600 mL oluyor.  
**Buna göre gazın son sıcaklığı kaç  $^{\circ}\text{C}$ 'tur?**

- A) 127 B) 327  
C) 627 D) 900

17. Gazlarla ilgili aşağıdaki açıklamalardan hangisi **yanlıştır**?

- A) Gerçek gazlar yüksek sıcaklık ve düşük basınçta ideallığe yaklaşır.  
B) Gazların davranışlarını açıklamak için geliştirilen teori "kinetik teori"dir.  
C) Gerçek gazlar sıkıştırıldıkça ideallikten sapar.  
D) Hacmi değişmeyen belli bir miktar gazın sıcaklığı artırıldığında gaz moleküllerinin kinetik enerjisi azalır.

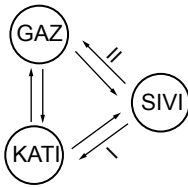
18. Aşağıda bazı sıvılar ve viskozite değerleri verilmiştir.

Sıvı	Viskozite ( $\text{mN/m}^2 \cdot \text{s}$ )
Su	0,894
Gliserin	1200
Zeytinyağı	81
Civa	1,526

**Buna göre aynı şartlar altındaki bu sıvılardan hangisi daha hızlı akar?**

- A) Su B) Gliserin  
C) Zeytinyağı D) Civa

19.



**Yukarıdaki şekilde I ve II numaralı hal değişim olayları aşağıdakilerin hangisinde doğru verilmiştir?**

- | I        | II         |
|----------|------------|
| A) Donma | Buharlaşma |
| B) Erime | Yoğuşma    |
| C) Erime | Buharlaşma |
| D) Donma | Yoğuşma    |

20. Aşağıdakilerden hangisi kristal katı türlerinden biri **değildir**?

- A) İyonik katı  
B) Moleküler katı  
C) Kovalent katı  
D) Amorf katı

### (436) KİMYA – 6

1. Kütlece % 20'lik 160 gram şeker çözeltisine 40 gram daha şeker eklenerek tamamen çözünmesi sağlanıyor.

**Oluşan yeni çözeltinin kütlece yüzde derişimi aşağıdakilerin hangisinde doğru verilmiştir?**

- A) 18 B) 24 C) 36 D) 48

2. 30 mL etil alkol ( $\text{C}_2\text{H}_5\text{OH}$ ) kullanılarak 300 mL'lik sulu çözelti hazırlanıyor.

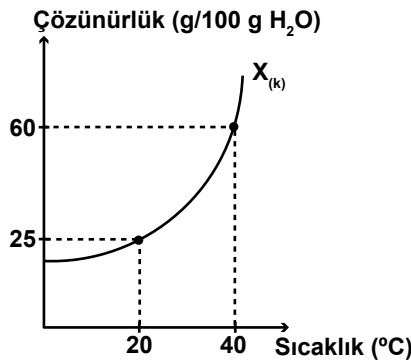
**Oluşan çözeltinin hacimce etil alkol yüzdesi aşağıdakilerin hangisinde doğru verilmiştir?**

- A) 5 B) 10 C) 20 D) 30

3. 2 M, 500 mL'lik sodyum hidroksit ( $\text{NaOH}$ ) çözeltisinde kaç gram çözünmüş  $\text{NaOH}$  bulunur? ( $\text{H}=1 \text{ g/mol}$ ,  $\text{O}=16 \text{ g/mol}$ ,  $\text{Na}=23 \text{ g/mol}$ )

- A) 10 B) 20 C) 40 D) 80

4. X tuzunun çözünürlük sıcaklık grafiğı aşağıdaki gibidir.



**Buna göre  $40^{\circ}\text{C}$ 'ta hazırlanan 160 gramlık doymuş çözelti  $20^{\circ}\text{C}$ 'a soğutulursa kaç gram X tuzu çöker?**

- A) 35 B) 70 C) 105 D) 140

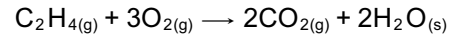
5. Çevre ile enerji ve madde alış-verişi yapabilen ve sıcaklığı sabit olan sistem aşağıdakilerden hangisidir?

- A) İzole sistem  
B) İzokorik sistem  
C) İzobarik sistem  
D) İzotermal sistem

6. Bazı bileşiklere ait standart oluşum entalpileri tabloda verilmiştir.

Bileşik	$\Delta H^{\circ}_{\text{olusum}}$ (kJ/mol)
$\text{C}_2\text{H}_4(\text{g})$	50
$\text{CO}_2(\text{g})$	-390
$\text{H}_2\text{O}(\text{s})$	-285

**Buna göre;**



**tepkimesinin standart entalpi değişimi ( $\Delta H^{\circ}$ ) kaç kJ'dür?**

- A) 1400 B) 1350  
C) -1350 D) -1400

7. Aşağıdaki olayların hangisinde zamanla sistemin entropisi artar?

- A) Metil alkolün donması  
B) Şekerin suda çözünmesi  
C) Havanın  $-20^{\circ}\text{C}$ 'tan  $-80^{\circ}\text{C}$ 'a soğuması  
D) Su buharının yoğunlaşması

8. "Evrende toplam enerji miktarı sabittir ve enerji korunumu söz konusudur. Enerji fiziksel değişimlerle ve kimyasal tepkimeler ile yok edilemez ve üretilemez. Bir hal değişimi sırasında enerjinin korunumu söz konusudur."

**Verilen ifade termodinamiğin hangi yasası ile ifade edilmektedir?**

- A) Sıfırıncı yasa  
B) Birinci yasa  
C) İkinci yasa  
D) Üçüncü yasa

## 1. OTURUM

9. Sabit hacimli bir kaptaki sabit sıcaklıkta gerçekleşen aşağıdaki tepkimelerden hangisinin hızı basınçtaki azalma ile takip edilebilir?

- A)  $2\text{NH}_3(\text{g}) \rightarrow \text{N}_2(\text{g}) + 3\text{H}_2(\text{g})$   
B)  $\text{CaCO}_3(\text{k}) \rightarrow \text{CaO}(\text{k}) + \text{CO}_2(\text{g})$   
C)  $2\text{SO}_2(\text{g}) + \text{O}_2(\text{g}) \rightarrow 2\text{SO}_3(\text{g})$   
D)  $\text{PCl}_5(\text{g}) \rightarrow \text{PCl}_3(\text{g}) + \text{Cl}_2(\text{g})$

10. Tek basamakta gerçekleşen aşağıdaki tepkimelerden hangisinin tepkime derecesi 2'dir?

- A)  $\text{H}_2(\text{g}) + \text{Cl}_2(\text{g}) \rightarrow 2\text{HCl}(\text{g})$   
B)  $\text{PCl}_5(\text{g}) \rightarrow \text{PCl}_3(\text{g}) + \text{Cl}_2(\text{g})$   
C)  $\text{F}_2(\text{g}) + 2\text{ClO}_2(\text{g}) \rightarrow 2\text{FCLO}_2(\text{g})$   
D)  $\text{CaCO}_3(\text{k}) \rightarrow \text{CaO}(\text{k}) + \text{CO}_2(\text{g})$

11.  $2\text{NO}(\text{g}) + \text{H}_2(\text{g}) \rightarrow \text{N}_2(\text{g}) + \text{H}_2\text{O}_2(\text{g})$  tepkimesinin hız sabitinin (k) birimi aşağıdakilerin hangisinde doğru verilmiştir?

- A)  $\frac{1}{\text{s}}$  B)  $\frac{\text{litre}}{\text{s} \cdot \text{mol}}$   
C)  $\frac{\text{litre}^2}{\text{s} \cdot \text{mol}^2}$  D)  $\frac{\text{litre}^3}{\text{s} \cdot \text{mol}^3}$

12. I.  $\text{N}_2(\text{g}) + 3\text{H}_2(\text{g}) \rightleftharpoons 2\text{NH}_3(\text{g})$   
II.  $2\text{NO}_2(\text{g}) \rightleftharpoons \text{N}_2\text{O}_4(\text{g})$   
III.  $\text{CaCO}_3(\text{k}) \rightleftharpoons \text{CaO}(\text{k}) + \text{CO}_2(\text{g})$

Verilen tepkimelerden hangileri homojen denge tepkimesidir?

- A) Yalnız I B) I ve II  
C) II ve III D) I, II ve III

13.  $\text{CaCO}_3(\text{k}) \rightleftharpoons \text{CaO}(\text{k}) + \text{CO}_2(\text{g})$

Tepkimesi  $0^\circ\text{C}$ 'ta dengede iken  $K_c$  değeri 5'tir.

Buna göre aynı sıcaklıkta tepkimenin  $K_p$  değeri aşağıdakilerden hangisidir?

- A) 11,2 B) 22,4  
C) 56 D) 112

14.  $\text{PCl}_5(\text{g}) \rightleftharpoons \text{PCl}_3(\text{g}) + \text{Cl}_2(\text{g})$

tepkimesi sabit sıcaklıkta sabit hacimli bir kaptaki dengededir.

Buna göre aynı sıcaklıkta tepkime kabına  $\text{Cl}_2$  gazı eklenirse aşağıdakilerden hangisi yanlış olur?

- A) Denge girenler yönüne kayar.  
B)  $\text{PCl}_5$  gazının mol sayısı artar.  
C)  $\text{Cl}_2$  gazının mol sayısı azalır.  
D)  $\text{PCl}_3$  gazının mol sayısı azalır.

15.  $25^\circ\text{C}$ 'ta hazırlanan sulu çözeltide bulunan  $\text{OH}^-$  iyon derişimi  $1 \cdot 10^{-6}$  M'dir.

Bu çözelti ile ilgili aşağıdakilerden hangisi doğrudur?

- A) pH değeri pOH değerinden büyüktür.  
B)  $\text{H}^+$  iyon sayısı  $\text{OH}^-$  iyon sayısından fazladır.  
C) pOH değeri 7'den büyüktür.  
D) Asidik özellik gösterir.

16.  $\text{CH}_3\text{COOH} + \text{H}_2\text{O} \rightleftharpoons \text{CH}_3\text{COO}^- + \text{H}_3\text{O}^+$  tepkimesi ile ilgili aşağıdakilerden hangisi yanlıştır?

- A)  $\text{CH}_3\text{COOH}$ ,  $\text{CH}_3\text{COO}^-$ 'nin konjuge asididir.  
B)  $\text{H}_2\text{O}$ ,  $\text{H}_3\text{O}^+$ 'nin konjuge asididir.  
C)  $\text{CH}_3\text{COO}^-$  bazik özellik gösterir.  
D)  $\text{H}_3\text{O}^+$  asidik özellik gösterir.

17.  $25^\circ\text{C}$ 'ta  $1 \cdot 10^{-4}$  M  $\text{HNO}_3$  sulu çözeltisinin pOH değeri aşağıdakilerin hangisinde doğru verilmiştir?

- A) 2 B) 4 C) 10 D) 12

18.  $25^\circ\text{C}$ 'ta 0,1 M HF sulu çözeltisinin pH değeri aşağıdakilerden hangisidir? (HF için  $K_a = 1 \cdot 10^{-5}$ )

- A) 3 B) 5 C) 9 D) 11

19.  $25^\circ\text{C}$ 'ta  $\text{CaSO}_4$  iyonik katısının çözünürlüğü 0,68 g/L olarak belirlenmiştir.

Buna göre aynı sıcaklıkta  $\text{CaSO}_4$  tuzunun çözünürlük çarpımı ( $K_{\text{çç}}$ ) değeri aşağıdakilerden hangisidir? ( $\text{CaSO}_4 = 136$  g/mol)

- A)  $5 \cdot 10^{-3}$  B)  $25 \cdot 10^{-6}$   
C)  $125 \cdot 10^{-9}$  D)  $625 \cdot 10^{-12}$

20.  $\text{Fe}(\text{OH})_3$  katısının çözünürlük çarpımı bağıntısı aşağıdakilerden hangisidir?

- A)  $K_{\text{çç}} = [\text{Fe}^{+3}] \cdot [\text{OH}^-]^3$   
B)  $K_{\text{çç}} = [\text{Fe}^{+3}] \cdot [\text{OH}^-]$   
C)  $K_{\text{çç}} = [\text{Fe}^{+3}]^3 \cdot [\text{OH}^-]$   
D)  $K_{\text{çç}} = [\text{Fe}^{+3}] \cdot [3\text{OH}^-]$

### (441) BİYOLOJİ – 1

1. Aşağıda verilenlerden hangisi bilim insanlarının sahip olması gereken özelliklerden biri değildir?

- A) Ön yargıdan uzak ve tarafsızdır.  
B) Akılcı ve gerçekçidir.  
C) Yeniliklere açık ve aydın bir kişiliğe sahiptir.  
D) Mutlak otoriteyi her koşulda kabul etmelidir.

2. Aşağıda verilenlerden hangisi bir tahmin cümlesidir?

- A) Sigara akciğer kanserine neden olur.  
B) Bitkilerde azot eksikliğine bağlı olarak yapraklar sararır.  
C) Eğer amip ökaryot yapılı ise mitokondri organeli bulundurulmalıdır.  
D) Su, deniz seviyesinde  $100^\circ\text{C}$ 'de kaynamaya başlar.

3. Suç ve suçluların tespit ve ispatı için çalışmalar yapan biyoloji çalışma alanı aşağıdakilerden hangisidir?

- A) Moleküler Biyoloji  
B) Kriminal Biyoloji  
C) Çevre Biyolojisi  
D) Hidrobiyoloji



## 1. OTURUM

### 4. Hücreden organizmaya geçiş sürecinde,

- I. Organ
- II. Sistem
- III. Doku

verilenler hangi sıraya göre oluşur?

- A) I - II - III      B) II - I - III  
C) III - II - I      D) III - I - II

### 5. Aşağıda verilen canlılardan hangisi herbivorlara örnek gösterilir?

- A) Koyun      B) Kedi  
C) Kurt      D) İnsan

### 6. Bütün canlılar için,

- I. Hücre sayılarını artırarak büyüme gösterirler.
- II. Solunum yaparak enerji ihtiyacını giderirler.
- III. Üreme yaparak nesillerini devam ettirirler.
- IV. Boşaltım yaparak atık maddeleri uzaklaştırırlar.

verilenlerden hangisi yanlış bir açıklamadır?

- A) Yalnız I      B) Yalnız II  
C) Yalnız III      D) Yalnız IV

### 7. Suyun özellikleri ile ilgili aşağıda verilenlerden hangisi yanlıştır?

- A) Kohezyon etkisi sayesinde yüzey gerilimi oluşturarak bazı böceklerin su üstünde yürüebilmesine neden olur.
- B) Su molekülleri arasında bulunan hidrojen bağları bu molekülleri bir arada tutarak suyun kararsız bir bileşik olmasını sağlar.
- C) Buharlaşma ısısı yüksek olduğu için suyun bulunduğu bölgelerin aşırı ısınmasını önleyerek ılıman iklimlerin oluşmasına neden olur.
- D) Topraktaki besleyici mineralleri çözerek bitkilerin ihtiyacı olan maddeleri topraktan almasını ve bitkinin diğer kısımlarına taşınmasını sağlar.

### 8. Minerallerle ilgili olarak,

- I. Vücut tarafından sentezlenir.
- II. Enerji kaynağı olarak kullanılır.
- III. Enzimlerin yapısına kofaktör olarak katılır.

ifadelerinden hangileri doğrudur?

- A) Yalnız III      B) I ve II  
C) I ve III      D) II ve III

### 9.

I. Demir	a. Bitkilerde klorofil yapısına katılır.
II. Fosfor	b. Hayvanlarda hemoglobinin yapısına katılır.
III. Kalsiyum	c. Nükleik asitlerin ve ATP'nin yapısına katılır.
IV. Magnezyum	d. Kas kasılması ve kanın pıhtılaşmasında görevlidir.

Tablo incelendiğinde mineral özellik eşleştirmesi aşağıdaki-lerden hangisinde doğru yapılmıştır?

- |    | I | II | III | IV |
|----|---|----|-----|----|
| A) | a | b  | d   | c  |
| B) | b | c  | d   | a  |
| C) | c | b  | d   | a  |
| D) | d | a  | c   | b  |

### 10. Karbonhidratlar için aşağıda verilen açıklamalardan hangisi yanlıştır?

- A) 1 gramı 4,20 kcal enerji verir.
- B) Hücre zarı ve çeper yapısına katılır.
- C) Fazlası yağa dönüştürülerek depolanır.
- D) Canlılarda ikinci dereceden enerji vericidir.

11. I. Suda çözünmeyip eter, kloroform gibi organik çözücülerde çözünür.
- II. Oksijenli solunumda kullanıldığında çok az miktarda enerji verir.
- III. Karbon ve hidrojen oranı düşük, oksijen oranı yüksektir.

Yukarıda verilenlerden hangileri yağların özellikleri ile ilgili doğru bir ifadedir?

- A) Yalnız I      B) I ve II  
C) II ve III      D) I, II ve III

12. • Bazı karbon atomları arasında ikili bağlar bulunur.
- Oda sıcaklığında sıvı haldedirler.
- Bitkisel kaynaklıdır.

Özellikleri verilen yağ çeşidi aşağıdakilerden hangisidir?

- A) Fosfolipitler  
B) Steroitler  
C) Doymamış yağ asitleri  
D) Doymuş yağ asitleri

### 13. Proteinlerin organizma üzerindeki etkisiyle ilgili aşağıda verilenlerden hangisi yanlıştır?

- A) Hücre yapımında ve dokuların onarımında kullanılır.
- B) Çeper yapısına katılarak madde geçişini düzenler.
- C) Antikor yapısına katılarak vücudun bağışıklığında görev alır.
- D) Albümin ve globülini oluşturarak kanın ozmotik basıncını düzenler.

14. • Fazlası karaciğerde depo edilir.
- Eksikliği geç hissedilir.
- Vücuda aşırı miktarda alınırsa zehir etkisi yapabilir.

Bazı özellikleri verildiği gibi olan vitamin grubuna aşağıdaki-lerden hangisi dahil edilmez?

- A) A vitamini      B) D vitamini  
C) C vitamini      D) K vitamini

### 15. Enzimlerle ilgili olarak,

- I. Biyokimyasal reaksiyonları başlatırlar.
- II. Tamamı protein yapısındadır.
- III. Tamamı koenzim taşıır.

ifadelerinden hangileri doğrudur?

- A) Yalnız I      B) Yalnız II  
C) I ve III      D) II ve III

## 1. OTURUM

16. Aşağıda verilen ortamların hangisine bırakılan enzim normal bir şekilde çalışarak reaksiyonu gerçekleştirir?

- A) % 30 suyun olduğu 35 °C'lik ortam
- B) % 5 suyun olduğu 35 °C'lik ortam
- C) % 50 suyun olduğu 50 °C'lik ortam
- D) % 10 suyun olduğu 70 °C'lik ortam

17.

Özellik	DNA	RNA
I. Molekülü oluşturan zincir sayısı	İki	Bir
II. Moleküle özel organik baz	Sitozin	Urasil
III. Molekülün eşlenme özelliği	Var	Var

DNA ve RNA moleküllerine ait bazı özelliklerin karşılaştırıldığı tablo incelendiğinde hangi özelliklerde yanlışlık yapıldığı söylenir?

- A) Yalnız II
- B) I ve III
- C) II ve III
- D) I, II ve III

18. Aşağıda verilen organellerden hangisi zar yapısı bakımından diğerlerinden ayrılır?

- A) Golgi
- B) Ribozom
- C) Lizozom
- D) Endoplazmik retikulum

19. Prokaryot ve ökaryot hücre tipinde ortak olan özelliklere aşağıdakilerden hangisi dahil edilmez?

- A) Genetik bilginin DNA aracılığıyla kodlanması ve aktarılması
- B) Glikoliz olayının görülmesi
- C) Proteazomlara sahip olunması
- D) Transkripsiyonun çekirdekte gerçekleşmesi

20. Aşağıda verilen moleküllerden hangisi hücre zarının fosfolipit tabakasından doğrudan geçemez?

- A) Oksijen
- B) Karbondioksit
- C) Aminoasit
- D) Etanol

### (443) BİYOLOJİ – 3

1. Aşağıda verilenlerden hangisi hücre döngüsünün mitoz süreci içerisinde yer alan evrelerden biri değildir?

- A) Profaz
- B) Telofaz
- C) Sitokinez
- D) İnterfaz

2. Bir hücrede çekirdek bölünmesinin olmasına karşın sitoplazma bölünmesi gerçekleşmez ise,

- I. Çok çekirdekli hücreler oluşur.
- II. Hücre hacmi küçülür.
- III. Hücre yaşamı sonlanır.

verilenlerden hangileri gözlenir?

- A) Yalnız I
- B) Yalnız II
- C) Yalnız III
- D) I ve II

3.  $2n=36$  kromozumlu bir hücre peş peşe üç mitoz bölünme yapar ise,

- a) oluşan hücre sayısı
- b) oluşan her bir hücrenin kromozom sayısı

değerleri aşağıdakilerden hangisinde verilmiştir?

	a	b
A)	2	18
B)	4	36
C)	8	36
D)	8	72

4. Aşağıda verilen canlılardan hangisinin çoğalması bölünme yoluyla olmaz?

- A) Paramesyum
- B) Karayosunu
- C) Bakteri
- D) Maya mantarı

5. Canlıdan kopan parçanın kendini tamamlayarak yeni bir canlı oluşturması şeklinde gerçekleşen üreme şekli aşağıda verilen canlılardan hangisinde gözlenebilir?

- A) Bira mayası
- B) Eğrelti otu
- C) Kertenkele
- D) Toprak solucanı

6. Çiçeksiz bitkilerin üremesi sırasında gözlenen,

- I. Spor
- II. Gametofit
- III. Zigot
- IV. Sporofit

yapıları haploit (n) ve diploit (2n) kromozumlu olanlar şeklinde gruplandırılırsa aşağıdakilerden hangisi doğru olur?

	n	2n
A)	I ve II	III ve IV
B)	I ve III	II ve IV
C)	II ve III	I ve IV
D)	III ve IV	I ve II

7. Aşağıda verilen, vejetatif üreme şekli – üremeyi gerçekleştiren canlı eşleştirmelerinden hangisinde yanlışlık yapılmıştır?

	Üreme şekli	Canlı
A)	Rizomla üreme	Zencefil
B)	Çelikle üreme	Afrika menekşesi
C)	Soğanla üreme	Lale
D)	Sürünücü gövdeyle üreme	Patates

8. Aşağıda verilen olaylardan hangisi mayoz bölünmenin Profaz I aşamasında gözlenmez?

- A) Tetrat oluşumu
- B) Cross-over
- C) Kromozom ayrılması
- D) Sinapsis

## 1. OTURUM

9. Eşeyli üreme sırasında gerçekleşen,

- I. Mayoz hücre bölünmesi ile gametlerin oluşması
- II. Sperm ve yumurtanın birleşmesiyle zigotun oluşması
- III. Zigotun mitoz bölünmeler ile embriyoyu oluşturması

olaylarından hangileri kalıtsal çeşitliliğe neden olur?

- A) I ve II      B) I ve III  
C) II ve III      D) I, II ve III

10.

	Özellik	Mayoz I	Mayoz II
I.	Öncesinde interfazın gerçekleşmesi	+	a
II.	Kardeş kromatitlerin ayrılması	b	+
III.	Sitokinezin gözlenmesi	c	+

(+; özelliğin görüldüğünü, -; özelliğin görülmediğini ifade eder.)

Tablo incelendiğinde a, b ve c'nin işaretleri sırasıyla aşağıdakilerden hangisindeki gibi olmalıdır?

- A) +, +, -      B) +, -, +  
C) -, -, +      D) -, +, -

11. Aşağıda verilenlerin hangisinde kalıtsal çeşitlilik görülmez?

- A) Partenogenez  
B) Rejenerasyon  
C) Konjugasyon  
D) Mayoz

12. Aşağıda altı çizili olarak verilenlerden hangi ikisinin kalıtsal yapısı birbiri ile aynıdır?

- A) Kraliçe arı ile işçi arı  
B) Kraliçe arı ile oluşturduğu yumurta hücresi  
C) Yumurta hücresi ile farklı yumurtadan oluşan erkek arı  
D) Erkek arı ile oluşturduğu sperm hücresi

13. Dişi bir insanın oogenezi süreci incelendiğinde, Mayoz II bölünme sonucu oluşan hücreler aşağıdakilerden hangisi ile tanımlanır?

- A) 1. Oosit      B) 2. Oosit  
C) Ootit      D) Yumurta

14. • Döl yatağının iç kısmında mukus salgılayan ve bol miktarda kan damarı taşıyan tabakadır.  
• Sperm ve yumurtanın birleştiği (döllenme olayının olduğu) yerdir.  
• Oogenezi ile yumurtaların oluşturulduğu bölümdür.

Dişi üreme sistemiyle ilgili verilen tanımlar incelendiğinde aşağıdakilerden hangisinin karşılığı yoktur?

- A) Serviks  
B) Fallopi tüpü  
C) Endometriyum  
D) Ovaryum

15. Menstrual döngü sırasındaki,

- I. Ovulasyon  
II. Menstruasyon  
III. Korpus luteum  
IV. Folikül

evreleri aşağıda verilen hangi sıraya göre gerçekleşir?

- A) I – III – IV – II  
B) II – I – III – IV  
C) III – IV – II – I  
D) IV – I – III – II

16. Erkek üreme sisteminde spermilerin hareket etmelerini ve beslenmelerini sağlayan seminal sıvıyı üreten bezlere aşağıdakilerden hangisi örnek verilmez?

- A) Prostat bezi  
B) Epididimis  
C) Cowper bezi  
D) Seminal kesecik

17. Cinsel yolla bulaşan hastalıklar ile ilgili aşağıdakilerden hangisi yanlış bir açıklamadır?

- A) Tedavi edilmediklerinde kısırlığa hatta ölüme neden olabilirler.  
B) Sadece kan yoluyla insandan insana bulaşabilir.  
C) Hastalık etkenini taşıyan kişiyle ilişkiye girilmesi sonucu bulaşabilir.  
D) Gebelikte ve doğumda anneden bebeğe bulaşabilir.

18. İnsanın embriyonik gelişimi sırasında hücre farklılaşması aşağıda verilen dönemlerin hangisinde başlar?

- A) Döllenme  
B) Gastrulasyon  
C) Blastula evresi  
D) Segmentasyon

19. Embriyonik gelişim sırasında embriyo, gelişimi için gerekli olan besini aşağıda verilen yapıların hangisinden karşılar?

- A) Allantoyis      B) Amniyon  
C) Vitellus      D) Koriyon

20. Hamilelik döneminde,

- I. Hamileliğin ilk üç ayında kızamıkçık geçirme  
II. Toksozplazmozis hastalığına yakalanma  
III. Folik asitin yetersiz alınması  
verilenlerden bebeğin engelli olması veya ölümüne neden olabilen etmenlerin tamamı seçeneklerin hangisinde gösterilmiştir?

- A) I ve II      B) I ve III  
C) II ve III      D) I, II ve III

## 1. OTURUM

(446) BİYOLOJİ – 6

1. Aşağıda verilen kemik çeşitlerinden hangisi yassı kemikler grubunda değerlendirilir?

- A) Uyluk kemiği
- B) Kaval kemiği
- C) Çene kemikleri
- D) Kaburga kemikleri

2. Aşağıda verilen kemik çeşitlerinden hangisi, yapısında sarı ilik kanalı ve sarı ilik bulundurması ile diğerlerinden ayrılır?

- A) Kafatası kemiği
- B) Omurga kemiği
- C) Baldır kemiği
- D) Ayak bilek kemiği

3. Huxley'in kayan iplikler hipotezine göre, çizgili bir kasın kasılması sırasında,

- I. A bandının boyu kısalır
- II. H bandı kaybolur.
- III. Sarkomerin boyu uzar.

verilenlerden hangileri gerçekleşir?

- A) Yalnız I
- B) Yalnız II
- C) II ve III
- D) I, II ve III

4. I. Sarkoplazmik retikulumdan aktin ve miyozinler arasında  $Ca^{+2}$  salgılanır.  
II. Motor sinirin akson ucundan asetil kolin salgılanır.  
III. ATPaz'ın etkinliğiyle ATP'nin hidrolizi gerçekleşir.  
IV. Aktin iplikler miyozin üzerinden kayar.

Çizgili bir kasın kasılması sırasında verilen olaylar aşağıdaki hangi sıraya göre gerçekleşir?

- A) I – III – II – IV
- B) II – I – III – IV
- C) III – IV – I – II
- D) IV – I – III – II

5. Kasılma sırasında aşağıda verilenlerden hangisinin miktarında azalma olur?

- A) Kreatinfosfat
- B) Adenozin difosfat
- C) Laktik asit
- D) İnorganik fosfat

6. Aşağıda verilenlerden hangisi sindirim kanalı organlarından biri değildir?

- A) Yemek borusu
- B) Onikiparmak bağırsağı
- C) Yutak
- D) Safra kesesi

7. I. Ağız  
II. Yutak  
III. İnce bağırsak

Verilen organlardan hangilerinin kimyasal sindirimi gerçekleştirme görevi yoktur?

- A) Yalnız I
- B) Yalnız II
- C) I ve III
- D) II ve III

8. Midenin, mide boşluğuna sindirim enzimi salgılamasında,

- I. Hormonlar
- II. Sinirler
- III. Fiziksel etkenler

verilenlerden hangilerinin etkisi vardır?

- A) Yalnız I
- B) I ve II
- C) II ve III
- D) I, II ve III

9. Aşağıda verilen damarlardan hangisi karbondioksit yönünden zengin kan taşır?

- A) Akciğer toplardamarı
- B) Aort atardamarı
- C) Kapı toplardamarı
- D) Böbrek atardamarı

10. Üst ana toplardamarında bulunan işaretli bir alyuvar hücresi aort atardamarına ulaşmaya kadar,

- I. Sağ kulakçık
- II. Sol kulakçık
- III. Sağ karıncık
- IV. Sol karıncık

yapılarından hangi sıraya göre geçer?

- A) I – II – III – IV
- B) I – III – II – IV
- C) II – IV – I – III
- D) II – I – IV – III

11. Aşağıda verilen damarlardan hangisi küçük kan dolaşımına ait değildir?

- A) Alt ana toplardamarı
- B) Akciğer atardamarı
- C) Akciğer toplardamarı
- D) Alveol kılcal damarı

12. Alyuvar hücre zarının üzerinde B ve Rh antijenini birlikte taşıyan bir insanın kan grubu aşağıdakilerden hangisidir?

- A) B Rh (+)
- B) A Rh (-)
- C) B Rh (-)
- D) A Rh (+)

13. Aşağıda verilenlerden hangisi özgül olmayan savunma mekanizmaları içerisinde değerlendirilmez?

- A) Doğal katil hücreleri
- B) İltihaplanma
- C) İnterferonlar
- D) T lenfosit hücreleri

14.

	AŞI	SERUM
I.	Aktif bağışıklık sağlar	Pasif bağışıklık sağlar
II.	Hasta kişiye uygulanır	Sağlıklı kişiye uygulanır
III.	Koruyucu özelliكتedir	Tedavi edici özelliكتedir
IV.	Kısa süreli bağışıklık sağlar	Uzun süreli bağışıklık sağlar

Aşı ve serumla ilgili verilen tablo incelendiğinde hangi özelliklerde yanlışlık yapılmıştır?

- A) I ve III
- B) II ve III
- C) II ve IV
- D) III ve IV

15. Sağlıklı bir insanda soluk verme sırasında aşağıdaki olaylardan hangisi gerçekleşmez?

- A) Kaburgalar arası kaslar kasılır.
- B) Diyafram kubbeleşir.
- C) Göğüs boşluğu basıncı artar.
- D) Akciğerdeki hava dışarı çıkar.

## 1. OTURUM

### (461) EKONOMİ – 1

16. Kandaki karbominohemoglobinin ( $HbCO_2$ ) miktarının artmakta olduğu bir zaman diliminde kan, aşağıda verilen damarların hangisinden geçiyor olabilir?

- A) Alveol kılcal damarı
- B) Karaciğer kılcal damarı
- C) Böbrek toplardamarı
- D) Bağırsak atardamarı

17. Böbreğin havuzcuğunda bulunan idrar dış ortama atılincaya kadar,

- I. Mesane
- II. Üreter
- III. Üretra

yapılarından hangi sıraya göre geçer?

- A) I – III – II
- B) II – III – I
- C) II – I – III
- D) III – II – I

18. Bir nefronun yapısında yer alan glomerulus kılcallarından bowman kapsülüne doğru süzülme ile aşağıdakilerden hangisi geçemez?

- A) Alyuvar
- B) NaCl
- C) Glikoz
- D) Üre

19. Aşağıda verilenlerden hangisi içgüdüsel davranışlara örnek olarak verilir?

- A) Yüksek bir ses karşısında istemsiz olarak göz kırpması
- B) Diz kapağının altına sertçe vurulduğunda ayağın öne doğru fırlaması
- C) Lezzetli bir yemek görüldüğünde tükürük salgısının artması
- D) Tırtılın pupa evresine girmeden önce koza örmesi

20. Mirketlerde gözlemci mirketin yaklaşan tehlikeyi (örneğin yırtıcı bir kuşu), kendisini tehlikeye sokup yüksek ses çıkartmak kaydıyla gruba haber vermesi aşağıda verilen davranış şekillerinden hangisiyle tanımlanır?

- A) Alan savunması
- B) Kur yapma
- C) Fedakarlık
- D) Yer belirleme

1. Ekonominin tanımı ile ilgili olarak aşağıdakilerden hangisi doğrudur?

- A) İnsanların ihtiyaçları sınırlıdır.
- B) Ekonominin temeli bolluk olayıdır.
- C) İhtiyaçlar mallardan çok daha fazladır.
- D) İhtiyaçları karşılayan araçlar (mallar) sınırsızdır.

2. “Doğruluğu tartışmasız kabul edilen bazı temel varsayımlardan hareket ederek bunların tek olaylara uygulanmasıdır.”

Verilen tanım ekonomi biliminde hangi yöntemle ilgilidir?

- A) Tümevarım yöntemi
- B) Tümdengelim yöntemi
- C) Karma yöntem
- D) Tartışma yöntemi

3. Bir toplumda belirli bir sürede üretilen malların üretime katkıda bulunan etkenlerin sahipleri arasında dağılımını ifade eden klasik sınıflama türü aşağıdakilerden hangisidir?

- A) Üretim
- B) Değişim
- C) İnkisam
- D) Tüketim

4. Girişimcinin üretim faaliyetine katılmasının karşılığı olarak elde ettiği gelire ne ad verilir?

- A) Kâr
- B) Faiz
- C) Ücret
- D) Maaş

5. Çalışmak isteyen herkese iş alanı sağlanması, var olan kaynakların tam ve etkili şekilde kullanılması, ekonomi politikasının başlıca hedeflerinden hangisi ile ilgilidir?

- A) Tam istihdam
- B) Ekonomik denge
- C) Hakça gelir dağılımı
- D) Ekonomik büyüme ve kalkınma

6. Sanayide kumaşın hazır elbise hâline getirilerek faydasının artırılması aşağıda verilen üretim faaliyetlerinden hangisi ile ilgilidir?

- A) Şekil faydası yaratan üretim faaliyetleri
- B) Mekân faydası yaratan üretim faaliyetleri
- C) Zaman faydası meydana getiren üretim faaliyetleri
- D) Mülkiyet faydası meydana getiren üretim faaliyetleri

7. Aşağıdakilerden hangisi kültürel mal olarak kabul edilir?

- A) Televizyon
- B) Otomobil
- C) Konut
- D) Ekmek

8. Malların ihtiyaçları karşılama imkânı aşağıdakilerden hangisinin tanımıdır?

- A) Fayda
- B) Servet
- C) Değer
- D) Mal

9. Aşağıdakilerden hangisi bazı ihtiyaçlar arasında ikame olayının gelişmesine bir örnek olarak gösterilemez?

- A) Arpa ve çavdar karışımı ekmeğin, buğday ekmeğinin yerini alması
- B) Pekmezin, şekerin yerine konması
- C) Sentetik kumaşların, yünün ve pamuğun yerini alması
- D) Et, sebze ve süt ihtiyaçlarının, şeker ihtiyacının yerine geçmesi

10. Aşağıdakilerden hangisi üretimin başlıca faktörlerinden değildir?

- A) Sermaye
- B) Girişimci
- C) Piyasa
- D) İş gücü

11. Aşağıdakilerden hangisi rekabetin olumsuz yönlerinden biridir?

- A) İşletmelerin gelişmesine katkı sağlaması
- B) Bazen kalitenin düşmesine neden olması
- C) Yeni üretim yöntemlerini geliştirmesi
- D) Fiyatların düşmesine neden olması

## 1. OTURUM

12. Üretim miktarına göre belirlenen ücrete ne denir?

- A) Zamana göre ücret
- B) Parça başına ücret
- C) Gerçek ücret
- D) Aynı ücret

13. Bir madenin değişik alanlarda farklı maliyetle çıkarılıp aynı fiyatla satılması hangi rantı oluşturur?

- A) Şehir rantını
- B) Mevki rantını
- C) Maden rantını
- D) Toprak rantını

14. Aşağıdakilerden hangisi vasıfsız emeğe bir örnektir?

- A) Mobilyacılık B) Terzilik
- C) Temizlikçilik D) Kunduracılık

15. I- Faiz  
II- Bağış  
III- Rant  
IV- Miras  
V- Ücret

Gelirin özelliklerine göre yukarıdakilerden hangisi/hangileri ekonomide gelir kabul edilir?

- A) Yalnız V B) II - IV
- C) I - II - IV D) I - III - V

16. Üretime toprağı ile katılan bir insanın, elde edilen gelirden aldığı paya ne ad verilir?

- A) Rant B) Ücret
- C) Faiz D) Kâr

17. İnsanların mal ve hizmet üretiminde kullandıkları zihinsel ve bedensel faaliyetlere ne ad verilir?

- A) Emek B) Sermaye
- C) Tüketim D) Üretim

18. Aşağıdaki bankalardan hangisi kâğıt para basma yetkisine sahiptir?

- A) Halk Bankası
- B) Ziraat Bankası
- C) Merkez Bankası
- D) Vakıflar Bankası

19. Aşağıdakilerden hangisi enflasyonun nedenlerinden biridir?

- A) Mal ve hizmet üretiminin artması
- B) Ürün maliyetlerinin azalması
- C) Dolaşımdaki para miktarının artması
- D) Faiz oranlarının düşmesi

20. Özel sektörün yetersiz kalması sonucu ekonomik alanda Cumhuriyetin ilk yıllarında uygulanan Atatürk ilkesi hangisidir?

- A) Halkçılık B) Milliyetçilik
- C) İnkılapçılık D) Devletçilik

### (465) TEMEL DİNİ BİL. – 1

1. Aşağıdakilerden hangisi dini oluşturan temel unsurlardan biri değildir?

- A) Tanrı inancının olması
- B) Ölüm ötesi ile ilgili görüşünün olması
- C) İnananların belli sorumluluklarının olması
- D) Dünyanın her yerinde mensubunun olması

2. Aşağıdakilerden hangisi dinin başlangıç tarihi olarak kabul edilmektedir?

- A) Hz. İsa'nın doğumu
- B) Dünyanın Allah tarafından yaratılması
- C) Hz. Âdem'in ilk peygamber olarak gönderilmesi
- D) Hz. Muhammed (sav.)'e ilk ayetlerin indirilmesi

3. Aşağıdakilerden hangisi dinin yanlış anlaşılması ve dünyevi çıkarılara alet edilmesinin sonuçlarından biri değildir?

- A) Dinin özüne göre ibadet edenlerin çoğalması
- B) Toplumların kargaşa ve ayrılığa düşmesi
- C) İnsanları sömüren kişilerin artması
- D) Bilimsel gelişmelerin engellenmesi

4. Aşağıdakilerden hangisi İlahi dinlerin sağladığı faydalardan biri değildir?

- A) İnsanın kendine olan güvenini artırması
- B) İnsanın yeryüzündeki anlam arayışına cevap vermesi
- C) Kişiye bu dünyada yalnız olmadığı bilincini kazandırması
- D) Büyünün ve büyücülerin yaygınlaşmasına zemin hazırlaması

5. Kabile dinlerinde; mana gücüne sahip, ruhlarla bağlantı kurduğuna inanılan ve ayinleri yöneten kişiyi ifade eden kavram aşağıdakilerden hangisidir?

- A) Şaman B) Tabu
- C) Totem D) Fetiş

6. • Ölen bütün iyi insanlar Tanrı olur.  
• Baba Tanrı ve Ana Tanrı vardır.  
• Japonlara özgü milli bir dindir.

Hakkında bilgi verilen din aşağıdakilerden hangisidir?

- A) Caynizm B) Taoizm
- C) Şintoizm D) Budizm

7. "Yedi kollu şamdan" ve "altı köşeli yıldız" hangi dinin sembolüdür?

- A) Hristiyanlık B) Yahudilik
- C) Budizm D) Konfüçyanizm

8. "...onu ne öldürdüler ne de astılar... Allah onu kendi katına yükseltti..."  
(Nisa suresi, 157-158. ayetler)

Bu ayetlerde bahsedilen Peygamber aşağıdakilerden hangisidir?

- A) Hz. Musa B) Hz. Âdem
- C) Hz. İsa D) Hz. Süleyman

## 1. OTURUM

9. Aşağıda verilen bilgilerden hangisi yanlıştır?
- A) Hz. Muhammed (sav.)'e kırk yaşında peygamberlik verilmiştir.  
B) Kur'an'ın ilk inen ayetleri Alâk suresinin ilk beş ayetidir.  
C) Müslümanlar ilk olarak Habeşistan'a hicret etmişlerdir.  
D) Hz. Peygamber Medine'ye Hz. Ömer ile hicret etmiştir.
10. "Eğer yerde ve gökte Allah'tan başka tanrılar olsaydı, her ikisi de bozulup gitmişti..."  
(Enbiyâ suresi, 22. ayet)  
**Bu ayette vurgulanan kavram aşağıdakilerden hangisidir?**
- A) Tevhid B) İhlâs  
C) İhsan D) Fitrat
11. "Allah'ın her şeyi görmesi" anlamına gelen sıfatı hangisidir?
- A) Vücut B) Beka  
C) Semi D) Basar
12. Yeme-içmeye ihtiyaç duymayan, cinsiyetleri bulunmayan, uyuma, yorulma, yaşlanma gibi özellikleri olmayan nurdan yaratılmış olan varlıklardır.  
**Verilen tanım aşağıdakilerden hangisine aittir?**
- A) Cin B) Melek  
C) Şeytan D) Huri
13. I. Hz. İsa – İncil  
II. Hz. Musa - Zebur  
III. Hz. Davut - Tevrat  
IV. Hz. Muhammed - Kur'an-ı Kerim  
**Yukarıda verilen Peygamber ve kutsal kitap eşleştirmelerinden hangisi/hangileri yanlıştır?**
- A) I. B) IV.  
C) I ve IV. D) II ve III.
14. "Allah'ın izni ile tabiat olaylarının oluşumu ve rızıkların dağıtımı ile görevli olan melek" **aşağıdakilerden hangisidir?**
- A) Azrail B) Mikail  
C) İsrail D) Cebrail

15. Aşağıdakilerden hangisi namazın dışındaki şartlarından biridir?
- A) Niyet B) Kıraat  
C) Secde D) Rükû
16. Aşağıdakilerden hangisi kişinin sorumlu tutulacağı konulardan biridir?
- A) Cinsiyeti B) Rengi  
C) İnanıcı D) Dili
17. Teyemmüm abdesti ile ilgili verilen bilgilerden hangisi yanlıştır?
- A) Abdestin farzları teyemmüm içinde geçerlidir.  
B) Abdesti bozan durumlar teyemmümü de bozar.  
C) Teyemmüm toprak veya toprak cinsi bir şeyle alınmalıdır.  
D) Teyemmüm abdestinde yüzün ve kolların mesh edilmesi gerekir.
18. "Namaz kılan erkek ve kadının, örtülmesi gereken yerlerini örtmesi" anlamına gelen namazın şartı hangisidir?
- A) Necasetten taharet  
B) İstikbal-i kible  
C) Setr-i avret  
D) Hadesten taharet
19. Aşağıda ramazan ayı ile ilgili verilen bilgilerden hangisi yanlıştır?
- A) Bu ayda oruç tutmak İslam'ın şartlarındanıdır.  
B) Hac ibadetinin yapıldığı mübarek bir aydır.  
C) Bin aydan hayırlı Kadir Gecesi bu aydadır.  
D) Kur'an bu ayda indirilmeye başlanmıştır.
20. Aşağıdakilerden hangisi haccın farzlarından biridir?
- A) Sa'y etmek  
B) Saçı kısaltmak  
C) Şeytan taşlamak  
D) Arafat'ta vakfe yapmak

### (477) İŞLETME – 2

1. Özel işletmelerin kamu işletmelerinden farklı olan amacı aşağıdakilerden hangisidir?
- A) Verimli olmak  
B) Kâr elde etmek  
C) Mal veya hizmet üretmek  
D) İstihdamı sürekli kılmak
2. Aşağıdakilerden hangisi üretim yapan bir endüstri işletmesidir?
- A) Demir çelik fabrikası  
B) Ticaret işletmesi  
C) Banka  
D) Okul
3. Bir işletmenin kurulması ve işletilmesi için gerekli paranın sağlanması hangi işletme fonksiyonu ile gerçekleştirilir?
- A) Üretim B) Pazarlama  
C) Finansman D) Yönetim
4. Aşağıdakilerden hangisi şahıs işletmelerinin özelliklerindedir?
- A) Büyüme yeteneği sonsuzdur.  
B) Yönetim belli bir sisteme bağlıdır.  
C) İşletmede yetkiler bir kişide toplanır.  
D) İşletmeden alacaklı olanlara karşı sorumlulukları sınırlıdır.
5. İnsan ihtiyaçlarını karşılamak üzere, ekonomik mal ve hizmet üretmek için faaliyette bulunan kuruluşlara ne denir?
- A) Fabrika B) Büro  
C) Dükkan D) İşletme
6. Bir işletmedeki başlıca birimleri, bunlar arasındaki karşılıklı ilişkileri ve işi yürütmekle görevli olanları aşağıdakilerden hangisi gösterir?
- A) İşletme bütçesi  
B) Teşkilat şeması  
C) Kâr/zarar tablosu  
D) İşletme bilançosu

## 1. OTURUM

7. İşletme yönetiminin organizasyon işlevinde son olarak aşağıdakilerden hangisi yapılır?
- A) Yapılacak işlerin belirlenmesi  
B) Yetki ve sorumlulukların belirlenmesi  
C) İşleri yapacak kişilerin göreve atanması  
D) Çalışma yerleri, kullanılacak araç ve yöntemlerin seçilmesi
8. Aşağıdakilerden hangisi sermaye şirketlerinin şahıs işletmelerine göre olumlu yönlerindendir?
- A) Faaliyetlerin gizli olması  
B) Kurulmasının kolay olması  
C) Yönetimin belli bir sisteme bağlı olması  
D) Yetkilerin bir kişide toplanmış olması
9. Aşağıdakilerden hangisi işletme yöneticilerinde olması gereken özelliklere göre yanlıştır?
- A) Yetki almaktan kaçınmalı  
B) Çalışanlarının işle ilgili görüşlerini almalı  
C) Sorumluluk almaya hazır olmalı  
D) Personelinin çalışmalarından haberdar olmalı
10. Yönetimin planlamadan sonra gelen işlevi aşağıdakilerden hangisidir?
- A) Denetim  
B) Sevk ve idare  
C) Koordinasyon  
D) Organizasyon
11. İşletmeler faaliyetlerini yürütürken çevrenin korunmasına yönelik alacağı tedbirlerden birisi aşağıdakilerden hangisi olamaz?
- A) Tesis kurulduktan sonra çevre sorunları dikkate alınmalıdır.  
B) Üretimde yenilenebilir kaynaklar kullanılmalıdır.  
C) Atıkların geri dönüşümü sağlanmalıdır.  
D) Üretim yapan fabrika bacalarına filtre takılmalıdır.
12. İşletmenin ihtiyaç duyduğu fonların en uygun şartlarda sağlanması ve bu fonların en etkin bir şekilde kullanılmasıyla ilgili faaliyetlerine ne ad verilir?
- A) Finans  
B) Finansman  
C) Finansal yönetim  
D) Finansman fonksiyonu
13. Aşağıdakilerden hangisi Klasik Yönetim Teorisinde etkinlik ve verimliliğin artırılması için hangi ilkelere uyulması gerektiğine yönelik yapılan araştırmalardan değildir?
- A) Hiyerarşik yapı  
B) Emir-komuta birliği  
C) Yapı ve insan davranışları  
D) İş bölümü ve uzmanlaşma
14. Aşağıdakilerden hangisi yönetimin özellikleri ile ilgili yanlış bir ifadedir?
- A) Yönetim verimliliği temel alır.  
B) Yönetim bir yetki faaliyetidir.  
C) Yönetim tek yönlü bir faaliyettir.  
D) Yönetim, bir karar verme sürecidir.
15. İşletmeler tutundurma faaliyetlerinden en çok aşağıda verilenlerden hangisini tercih etmektedir?
- A) Halkla ilişkiler  
B) Kişisel satış  
C) Satış teşvik  
D) Reklam
16. Yönetici, astlarının faaliyetlerini yönlendirmesi ve onlara ne yapmaları gerektiğini bildirmesi sürecinde emir verirken aşağıda verilenlerden hangisini tercih etmemelidir?
- A) Emirlerinin amaçlarını açıklamalı  
B) Emirleri kesin, açık vermeli  
C) Yazılı iletişim yapmalı  
D) İmkansız emirler vermekten kaçınmalı
17. İşletmelerin çalışanların ücretlerini belirlerken dikkate alacağı unsurlardan en önemlisi hangisidir?
- A) Yaşam düzeyini yükseltecek ölçüde olmalı  
B) Eşit işe eşit ücret verilmeli  
C) Ücretlendirme konusunda objektif olunmalı  
D) Çalışana ücret konusunda bilgi verilmeli
18. İşletmenin niteliğine uygun personel seçimi için aşağıda verilenlerden öncelikle hangisinin yapılması gerekir?
- A) İşin profilinin çıkarılması  
B) İş gereklerinin hazırlanması  
C) Personel ihtiyacı olan işlerin belirlenmesi  
D) İş için uygun personel kriterlerinin belirlenmesi
19. Bir yöneticinin üretim faktörlerini sistemli, uyumlu ve etkili biçimde kullanarak mal ve hizmet üretmek için çalışanların görevlerini en iyi biçimde yapmak üzere düzene koyması ve her türlü araç, gereç ve malzeme ile donatması, onun hangi yönetim fonksiyonunu yerine getirdiğini gösterir?
- A) Planlama  
B) Yönelme  
C) Koordinasyon  
D) Organizasyon
20. Küçük imalatçılarla, küçük perakendeciler için en uygun ve en ekonomik olma niteliğine sahip dağıtım kanalı hangi seçenekte verilmiştir?
- A) Üretici → Perakendeci - Tüketici  
B) Üretici → Toptancı - Perakendeci - Tüketici  
C) Üretici → Acenta → Perakendeci - Tüketici  
D) Üretici → Acenta → Toptancı → Perakendeci - Tüketici





## 1. OTURUM

### (484) SAĞLIK BİLGİSİ – 2

16. Tüme varımın öncüllerini oluşturan tekil önermeler ait olduğu grubun tümünü kapsıyorsa buna ---- denir.

**Açıklamadaki noktalı yere aşağıdakilerden hangisi getirilmelidir?**

- A) Tam Tüme Varım  
B) Eksik Tüme Varım  
C) Tümünden Gelim  
D) Varsayımlı Dedüktif Yöntem

17. "Ağrı dağı Türkiye'nin en yüksek dağıdır." önermesinin, özdeşlik mantığına göre sembolleştirilmesi aşağıdakilerden hangisidir?

- A)  $a \vee b$       B)  $a \equiv b$   
C)  $a \Rightarrow b$       D)  $a \neq b$

18. Aksiyomlardan türetilmiş önermeler aşağıdakilerden hangisiyle ifade edilir?

- A) Teorem  
B) Tanım  
C) Özdeşlik  
D) Ad değişmezleri

19. İki veya daha çok kişinin belli bir konuda farklı görüşleri ileri sürerek birbirlerini eleştirmelerinden doğan tartışmada amaç aşağıdakilerden hangisidir?

- A) Kendi görüşlerini karşıdakine kabul ettirmek  
B) Yanlışıları eleyip doğrulara ulaşmak  
C) Fikir çatışmalarını körüklemek  
D) Tutarsız sonuçlara ulaşmak

20. Mantığın anlam, ilke ve temel kavramlarıyla ilgili sorunları tartışmak amacıyla olan bilgi türü aşağıdakilerden hangisidir?

- A) Bilgi felsefesi  
B) Bilim felsefesi  
C) Varlık felsefesi  
D) Mantık felsefesi

1. Aşağıdakilerden hangisi "aile" kavramının özelliklerinden biri değildir?

- A) Aile huzurunun komşuluk ve akrabalık ilişkilerinden bağımsız olması  
B) Bireye çeşitli davranışlar ve alışkanlıklar kazandırması  
C) Toplumun en önemli ve esaslı alt yapısını oluşturması  
D) Yasal olarak evlenme yoluyla oluşması

2. Aşağıdakilerden hangisi, evlat edinebilmek için ailelerde aranan koşullardandır?

- A) Evlat edinenin en az lise mezunu olması  
B) Evli olmayanların birlikte evlat edinebilmesi  
C) Evlat edinilecek çocuk ile evlat edinecek kişi arasında en fazla 10 yaş farkın olması  
D) Anne ve baba adayının tutarlı, dengeli, çocuğa yeterli sevgi verebilecek kişilik yapısında olması

3. Sağlıklı anne için, iki doğum arasında en az kaç yıllık bir süre olmalıdır?

- A) 2 - 3      B) 4 - 5  
C) 6 - 7      D) 8 - 9

4. Genel korunma yöntemlerinden deri altı kapsülleri, kolun iç kısmına yerleştirilen kibrit çöpü büyüklüğünde silikon çubuklardır.

**Buna göre, "deri altı kapsülleri" ile ilgili aşağıda verilenlerden hangisi doğrudur?**

- A) Cinsel yolla bulaşan enfeksiyonlardan koruması  
B) Türüne göre üç ya da beş yıl boyunca gebelikten koruması  
C) Anne sütünün yapısını değiştirdiği için emzirirken kullanılmaması  
D) Kadında doğal olarak bulunan kadınlık hormonlarından ikisini (östrojen ve progesteron) içermesi

5. Hormon salgısının başladığı en erken dönemlerde, henüz adet gecikmesi bile olmadan  $\beta$ -HCG seviyesi saptanarak gebeliğin tanısı konabilir ya da gebelik oluşmadığı yönünde kesin karar verilebilir.

**Yukarıda açıklaması verilen ve gebelik tanısında kullanılan yöntem hangisidir?**

- A) Eczanelerde ya da evlerde uygulanan hazır test kitleri  
B) Laboratuvarında uygulanan idrar testleri  
C) Abdominal ultrason  
D) Kan testleri

6. Aşağıdakilerden hangisi, gebelik döneminde annenin yetersiz ve dengesiz beslenmesinin anne üzerindeki etkilerindendir?

- A) Ölü doğum  
B) Diş kayıpları  
C) Düşük ağırlıklı doğum  
D) Fiziksel gelişim geriliği

7. Hamilelik dışında da kadınlarda sıkça görülen kansızlık, kanda bulunan hangi maddenin normalin altına düşmesi sonucu görülür?

- A) Amilaz  
B) D vitamini  
C) Hemoglobin  
D) Rh faktörü

8. "Lohusalık dönemi" ile ilgili verilenlerden hangisi doğrudur?

- A) Doğumdan sonraki 2 yılı kapsar.  
B) Lohusalığın ilk günlerinde anneye su verilmez.  
C) Doğum eylemi bittikten sonra plasentanın ayrılmasına kadar geçen süredir.  
D) Bu dönemin sonunda, gebelikte oluşan değişiklikler gebelik öncesine döner.

## 1. OTURUM

9. I. Ekonomik olması  
II. Antikor bakımından fakir olması  
III. Her zaman hazır ve temiz olması

**Yukarıdakilerden hangileri anne sütünün sağladığı avantajlardandır?**

- A) I ve II      B) I ve III  
C) II ve III      D) I, II ve III

10. Sağlık Bakanlığı tarafından hazırlanan aşı takvimine göre, bebeklere zorunlu ve ücretsiz olarak yapılan aşılarından "BCG aşısı" kaçınıcı ayın sonunda uygulanmaktadır?

- A) 2.      B) 4.      C) 6.      D) 12.

11. I. Çabuk iyileşen yaralar  
II. Yutkunma güçlüğü ve hazımsızlık  
III. Uzun süreli ses kısıklığı ve öksürük

**Yukarıdakilerden hangileri kanserin belirtilerindendir?**

- A) Yalnız I      B) I ve II  
C) II ve III      D) I, II ve III

12. Aşağıdakilerden hangisi, kanserden korunmak için alınması gereken önlemlerdendir?

- A) Günlük tuz tüketiminin 5-6 gramı geçmesi  
B) Haftada 3 gün en az 30 dakika yürüyüş yapılması  
C) Doymuş yağ asidi içeren yağların tercih edilmesi  
D) Tavuk ve balık eti yerine fazla yağlı kırmızı etlerin tercih edilmesi

13. Egzersiz yapmak şeker hastalarının yaşam kalitesini artırmada çok etkilidir.

**Buna göre, şeker hastalarının egzersiz yapması aşağıdaki durumlardan hangisine yardımcı olur?**

- A) Kilo alımını artırmaya  
B) İdeal kilodan uzaklaşmaya  
C) Şeker oranını dengede tutmaya  
D) Şekerli hızlı bir şekilde düşürmeye

14. Talasemi majör, bebeklerde 3-4 aylıkken başlayan ve sürekli kan nakli gerektiren çok ciddi bir kan hastalığıdır.

**Buna göre, aşağıdakilerden hangisi talasemi majörün belirtilerindendir?**

- A) İştahın artması  
B) Karın bölgesinin şişmesi  
C) Karaciğer ve dalağın küçülmesi  
D) Ateşin sık sık normalin altında ölçülmesi

15. Astımı tedavi etmekte kullanılan üç ayrı grup ilaç aşağıda verilmiştir.

**Buna göre,**

- I. Önleyiciler  
II. Rahatlatıcılar  
III. Kurtarıcı ya da acil ilaçlar

**verilenlerden hangileri "solunum yollarındaki duyarlılığı ortadan kaldırmak ve uzun süreli kullanımda hastalığı tedavi etmek için" tercih edilen ilaç gruplarındandır?**

- A) Yalnız I      B) Yalnız II  
C) Yalnız III      D) I, II ve III

16. Aşağıdakilerden hangisi, bulaşıcı hastalıklardan korunmak için "bulaşma yollarına yönelik" olarak alınan önlemlerdendir?

- A) Ekonomik düzeyin düzeltilmesi  
B) Dengeli ve yeterli beslenilmesi  
C) Hayvanların kontrol edilmesi  
D) Sağlıklı kişilerin aşılanması

17. Su ve besinlerle bulaşan hastalıklarla ilgili verilenlerden hangisi yanlıştır?

- A) Toplumların eğitim ve genel gelişmişlik düzeyleriyle yakın ilişkili olan hastalıklar olması  
B) Sıcak, nemli havalar ve kötü hijyenik koşullarda oluşması  
C) Genelde ağız ve dışkı yoluyla bulaşması  
D) Genellikle kış aylarında görülmesi

18. Aşağıdakilerden hangisi, temas yoluyla bulaşan hastalıklardan korunmak için yapılması gereken uygulamalardan biri değildir?

- A) Aşı yaptırmaktan kaçınılması  
B) Kişisel hijyene gereken önemin verilmesi  
C) Kapalı alanlarda enfeksiyon bulgusu olan kişilerle temastan kaçınılması  
D) Grip ve soğuk algınlığı bulunan kişilerle tokalaşmak ve sarılmaktan kaçınılması

19. • Kuluçka süresi 2-30 gündür.  
• Hastalığın etkeni bakterilerdir.  
• Cinsel yolla bulaşan hastalıkların en sık rastlanandır.

**Yukarıda bazı özellikleri verilen ve cinsel yolla bulaşan hastalık, aşağıdakilerden hangisidir?**

- A) AIDS      B) Frengi  
C) Hepatit B      D) Bel soğukluğu

20. I. Kusma  
II. Ense sertliği  
III. Anlamlı konuşmalar  
IV. Solunum problemleri

**3 ay - 3 yaş arası çocuklarda, 24 saatten uzun süreli ateş varlığının yanında yukarıdaki belirtilerden hangilerinin görülmesi hâlinde zaman geçirilmeden hekime başvurulmalıdır?**

- A) I ve II      B) I, II ve IV  
C) II, III ve IV      D) I, II, III ve IV

## 1. OTURUM

### (491) TRAF. VE İLK YARD. – 1

1. Trafik kazalarına sebep olan kaza faktörleri, kusur sayısı ve oranları tablodaki gibidir.

Kaza Faktörleri	Kusur Sayısı	(%)
Sürücü	104,884	87,32
Yaya	13,729	11,43
Yol	726	0,60
Araç	374	0,31

Buna göre, aşağıdakilerden hangisi trafik kazalarına en çok neden olan faktördür?

- A) Yol  
B) Araç  
C) Yaya  
D) Sürücü

2. Trafik ortamını paylaşanlar, aşağıdaki tutum ve davranışlardan hangisine sahip olursa hatalar azalır?

- A) Bencilliğe  
B) Aceleciliğe  
C) Hoşgörüyeye  
D) Öfke duygusuna

3. "Trafik düzeni ve güvenliği, trafiğe katılanlar arasındaki - - - - davranışlarla sağlanır."

Bu ifadede boş bırakılan yere aşağıdakilerden hangisi yazılmalıdır?

- A) uyumlu  
B) sınırlı  
C) saygısız  
D) sabırsız

4. Aşağıdakilerden hangisi, toplu taşıma araçlarını kullanmanın sağladığı faydalardandır?

- A) Fazla yakıt tüketimine neden olması  
B) Trafik yoğunluğunu azaltması  
C) Park problemine yol açması  
D) Çevre kirliliğini artırması

5. I. Arkadan çarpma  
II. Kavşaklarda geçiş önceliğine uymama  
III. Geçme yasağı olan yerlerde öndeki aracı geçme

Yukarıda verilenlerden hangileri, araç sürücülerinin trafik kazalarında asli (esas) kusurlu sayılacakları hâllerdendir?

- A) Yalnız I  
B) I ve II  
C) II ve III  
D) I, II ve III

6. • Mesafe tahmininde azalma  
• Sürücülük becerilerinde azalma  
• Muhakeme yeteneğinde azalma

Bir sürücüde yukarıda belirtilen davranışlar izleniyorsa bu sürücü hakkında ne söylenebilir?


- A) Alkollü olduğu  
B) Dinlenmiş olduğu  
C) Güvenli araç sürdüğü  
D) Belirli sürelerde mola verdiği

7. "Trafik kazalarından dolayı mağdurlar uzun süreli fiziki ve ruhi sakatlıklar yaşamaktadırlar."

Buna göre, aşağıdakilerden hangisi trafik kazalarının birey üzerinde bıraktığı psikolojik sonuçlardan biri değildir?

- A) Özgüvenin kaybedilmesi  
B) Zinde ve dinç hissedilmesi  
C) Kaygı (korku) krizi yaşanması  
D) Araç sürmede güçlük çekilmesi

8. Trafik görevlisinin, hangi hareketi bir seri halinde yapması o yönde akan "trafiğin hızlanması" talimatını içerir?



9. • Trafik düzen ve güvenliğini sağlar.  
• Yasaklama ve kısıtlamaları bildirir.  
• Sürücü, yaya ve yolcuların ortak dilidir.

Verilen bilgiler aşağıdakilerden hangisine aittir?

- A) Platform  
B) Kara yolu  
C) Bağlantı yolu  
D) Trafik işaret ve levhaları

10. Sürücünün aşağıdaki davranışlardan hangisini yapması, sürüş güvenliğini tehlikeye düşürür?

- A) Yol şartlarına göre kontrol edilebilecek hızda araç kullanması  
B) Sürüş öncesinde dengesiz ve yetersiz uyku uyuması  
C) Sürüş sırasında emniyet kemeri bağlaması  
D) Yolculuk öncesi araç bakımını yaptırmaması

11. Kara yollarında araç sürücülerinin aşağıdakilerden hangisini yapması yasaktır?

- A) Gidişe ayrılan yol bölümünün en sol şeridini sürekli işgal etmesi  
B) Geçme eylemini yaptıktan sonra tekrar uygun şeride girmesi  
C) Çok şeritli yollarda hızın gerektirdiği şeritten sürmesi  
D) İşaret verdikten sonra şerit değiştirmesi

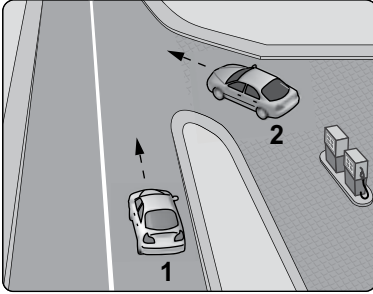
## 1. OTURUM

12. Tabloda verilen istatistiki bilgide, hızın trafik kazalarında birinci sırada yer aldığı görülmektedir.

Kaza Sebepleri	(%)
Araç hızını yol, hava ve trafiğin gerektirdiği şartlara uydurmamak	34,40
Geçiş önceliğine uymamak	15,96
Dönüş kurallarına uymamak	14,34
Arkadan çarpmak	10,05

Buna göre, aşağıdakilerden hangisi aşırı hızın sebep olduğu trafik kazalarından biri değildir?

- A) Hız arttıkça fren mesafesinin artması  
 B) Hız arttıkça aracın kontrolünün güçleşmesi  
 C) Hız sınırlamalarına uygun hızda araç sürülmesi  
 D) Hız arttıkça araçların dönmelerde savrulması
13. Şekildeki akaryakıt istasyonundan çıkmak isteyen 2 numaralı aracın sürücüsü ne yapmalıdır?



- A) Geçiş hakkını kendi kullanmalı  
 B) Hızlanarak yoluna devam etmeli  
 C) 1 numaralı aracın geçmesini beklemeli  
 D) Korna çalıp 1 numaralı aracı durdurmalı
14. I. Taşıt yolu üzerinde yer açmak  
 II. Gerekliyse durmak ve beklemek  
 III. Bir kavşakta ise kavşağı derhal boşaltmak

Geçiş üstünlüğü bulunan bir aracın duyulur veya görülür işaretini alan araç sürücüleri, yukarıda verilenlerden hangilerini yapmak zorundadır?

- A) Yalnız I  
 B) I ve II  
 C) II ve III  
 D) I, II ve III

15. • Motor durdurulur.  
 • Araç el freni ile tespit edilir.  
 • Eğimli yollarda inişte geri, yokuşta birinci vitese takılır.

Yukarıda verilen esaslar hangi durumda uygulanır?

- A) Durma  
 B) Park etme  
 C) Geri gitme  
 D) U dönüşü yapma

16. Kara yollarında geceleyin öndeki araç yakından takip edilirken veya karşılaşmalarda hangi ışıkların yakılması zorunludur?

- A) Sis ışıklarının  
 B) Dönüş ışıklarının  
 C) Kısa hüzmeli farların  
 D) Uzun hüzmeli farların

17. Yaya yollarında, geçitlerde veya mecburi hallerde taşıt yolu üzerinde bulunan yayaların, aşağıdakilerden hangisini yapması doğrudur?

- A) Dalgın ve tedbirsiz olması  
 B) Yol ve geçitleri saygısızca kullanması  
 C) Trafiği tehlikeye düşürecek davranışta bulunması  
 D) Gidiş yönüne göre geçidin sağ bölümünden yürümesi

18. Aşağıdakilerden hangisi, trafik kazalarıyla ilgili olarak kazaya karışan veya olay yerinden geçmekte olanların yükümlülüklerinden biri değildir?

- A) Olayı zabıta veya sağlık kuruluşuna bildirmek  
 B) Kaza geçirdiği belli olan araçları bir deftere işlemek  
 C) Kaza yerinde usulüne uygun ilk yardım tedbirlerini almak  
 D) Yetkililerin istemesi halinde yaralıları en yakın sağlık kuruluşuna götürmek

19. Aşağıdakilerden hangisi, yayalar için para cezasını gerektiren davranışlardandır?

- A) Trafiği tehlikeye düşürecek şekilde taşıt yolunda yürümek  
 B) Görüşün az olduğu hallerde uyarıcı tedbirleri almak  
 C) Yaya alt ve üst geçitlerini kullanmak  
 D) Işıklı trafik işaretlerine uymak

20. Tescil işlemi tamamlanmış araçların trafiğe çıkarılmasına müsaade eden ve muayene sürelerini belirleyen belgeye - - - - denir.

Bu ifadede boş bırakılan yere aşağıdakilerden hangisi yazılmalıdır?

- A) Sürücü Belgesi  
 B) Noter Satış Belgesi  
 C) Motorlu Araç Trafik Belgesi  
 D) Araç İmalat Belgesi

(502) İNGİLİZCE – 8

1 - 20. sorularda boş bırakılan yere uygun gelen kelime ya da ifadeyi işaretleyiniz.

1. He - - - - to South America this time tomorrow.

- A) will be flying  
 B) had flown  
 C) flew  
 D) fly

2. By 2018, I - - - - graduated from the university.

- A) am  
 B) had  
 C) was  
 D) will have

3. Don't wait for me - - - - I am late.

- A) by  
 B) if  
 C) so  
 D) and

4. If you - - - - water, it evaporates.

- A) study  
 B) wash  
 C) boil  
 D) eat

## 1. OTURUM

5. If you ---- home early, I will make you a cake.

- A) will come      B) comes  
C) came            D) come

6. If I were young, I ---- all around the world.

- A) would travel  
B) can travel  
C) will travel  
D) travel

7. She could drive to work if she ---- a driving license.

- A) has              B) had  
C) have             D) will have

8. If we ---- the news, we would have heard about it.

- A) had watched  
B) will watch  
C) watched  
D) watch

9. I will be in Uşak this time ----.

- A) last week      B) yesterday  
C) next week     D) two days ago

10. She is very active ---- she is young.

- A) while            B) because  
C) as soon as     D) by the time

11. I went shopping ---- buy a present for her yesterday.

- A) until            B) as soon as  
C) in order to     D) by the time

12. ---- I see him, I feel happy.

- A) So                B) But  
C) And              D) Whenever

13. I will run ---- I can.

- A) fast              B) faster  
C) as fast as      D) the fastest

14. Don't move! Stay ---- you are. I will bring help.

- A) where            B) when  
C) while             D) who

15. You will be successful ---- you study regularly.

- A) in order to      B) as long as  
C) wherever        D) before

16. ---- I go to İstanbul, I will visit Sultan Ahmet Mosque.

- A) Before            B) Where  
C) Until             D) If

17. Tea is ---- in Rize.

- A) grown            B) eaten  
C) gone             D) slept

18. The Pyramids were built ---- the ancient Egyptians.

- A) to      B) on      C) by      D) from

19. The car was ---- last Saturday night.

- A) steals            B) steal  
C) stole             D) stolen

20. My last book hasn't been ---- yet.

- A) published        B) washed  
C) driven            D) eaten

(502) ALMANCA – 8

1-16. sorularda boş bırakılan yere uygun gelen kelime ya da ifadeyi işaretleyiniz.

1. Hasan sagt Elif ist fleißig. Heike sagt Elif ist faul.

A: ----  
B: Heike.

- A) Wer hat Recht?  
B) Was denkst du?  
C) Wie geht es Heike?  
D) Was ist das?

2. Mit dem Flugzeug ist ---- viel schneller in Erzurum.

- A) bis                B) zu  
C) man              D) nach

3. ---- ich jetzt Urlaub hätte, ---- ich nach Rize fahren.

- A) Dann / wenn  
B) Wenn / würde  
C) Wenn / war  
D) Dann / würden

4. Nach der Universität möchte ich ----.

- A) erlernen        B) besuchen  
C) erlauben        D) arbeiten

5. Die Frau, ---- unsere Schule besucht hat, ist Ministerin.

- A) die                B) der  
C) das                D) deren

6. Das Bild, ---- an der Wand hängt, habe ich gemalt.

- A) die      B) der      C) das      D) den

7. A: Was denkst du, ---- Klaus nach Çeşme fährt?

B: Ich denke ---- August.

- A) was / um      B) wann / im  
C) warum / um   D) wo / im

## 1. OTURUM

8. Die Schüler denken, - - - - ihr Lehrer nächstes Jahr nicht mehr in ihrer Schule sein wird.

- A) dass            B) denn  
C) um             D) ob

9. Die Arbeiter - - - - nächstes Jahr mehr Geld bekommen.

- A) wirst            B) werdet  
C) wurde         D) werden

10. Ich fahre auch zum Flughafen. Sie - - - - mit mir fahren.

- A) kann            B) können  
C) kannst         D) könntest

11. Sie - - - - später Fußball spielen.

- A) sind            B) ist  
C) wollen         D) bist

12. Ich kann heute nicht mit dem Auto fahren. Ich - - - - die Schlüssel nicht finden.

- A) sollen         B) sein  
C) kann           D) bin

13. A: - - - - die Stadt Kayseri?  
B: Rund 320 Kilometer östlich der Stadt Ankara.

- A) Wie weit        B) Wo liegt  
C) Wie lange      D) Wie viel

14. Mein Großvater - - - - nicht mehr viel Fleisch essen.

- A) darf            B) ist  
C) dürfen         D) mögen

15. Ihr - - - - uns im Garten nicht geholfen.

- A) habe            B) hast  
C) habt            D) haben


16. Der schwarz- - - - - Hund sitzt auf dem blau- - - - - Auto.

- A) - / -es         B) - e / -en  
C) -en / -e       D) - er / -es

17. Aşağıdakilerden hangisi sıfattır (Adjektiv)?

- A) sitzen         B) singen  
C) trinken        D) schwach

18.



Was machen Sie?

- A) Bus fahren  
B) Fahrrad fahren  
C) Autorennen  
D) Motorradrennen

19.



Was ist sie von Beruf?

- A) Polizist        B) Ärztin  
C) Lehrerin      D) Bauingenieur

20. Aşağıdakilerden hangisi sıfattır (Adjektiv)?

- A) krank           B) weinen  
C) malen           D) verstehen

(502) FRANSIZCA – 8

1 - 18. sorularda boş bırakılan yere uygun gelen kelime ya da ifadeyi işaretleyiniz.

1. J'aime beaucoup - - - - fleurs.

- A) l'            B) le    C) la    D) les

2. Nicole, s'il vous plaît, - - - - au téléphone pour moi.

- A) répondent    B) répond  
C) répondez    D) répondre

3. A: Maman, je peux regarder la télé?

B: Non, - - - - la télé!

- A) regarde  
B) regarder  
C) ne regarde pas  
D) ne regarde personne

4. La pharmacie - - - - à 19 heures en Turquie.

- A) cherche        B) ferme  
C) prend          D) sait

5. Ma sœur a vu le film Titanic - - - - elle trouve super.

- A) que (qu')      B) qui  
C) où               D) dont

6. A : Qu'est-ce que tu prends comme boisson ?

B : Je prends - - - - .

- A) un gâteau au chocolat  
B) des pommes de terre  
C) du jus d'orange  
D) du beurre

7. A: Murat téléphone souvent à - - - - ?

B: Oui, il leur téléphone souvent.

- A) sa fille            B) son cousin  
C) son père         D) ses parents



## 1. OTURUM

8. A: Et toi, tu ne prends pas d'omelette ?  
B: Si, mais je peux ---- manger deux fois par semaine.  
A) les B) y C) en D) leur

9. Les Turcs boivent 25 litres de lait ---- personne ---- an.  
A) en / dans B) par / par  
C) dans / en D) en / en

10. Je ne suis jamais allé en Allemagne mais mon frère ---- habite.  
A) par B) en C) y D) le

11. Paul a rendez-vous à 11 heures chez le dentiste. Il est 11 h 15. Il est encore chez lui. Alors il est ----.  
A) en retard B) à l'heure  
C) en avance D) à midi

12. Nicole a cassé le vase en cristal ---- sa maladresse.  
A) parce que B) grâce à  
C) à cause de D) pourquoi

13. Pour grossir, il faut ----.  
A) marcher  
B) faire du sport  
C) perdre du kilo  
D) manger beaucoup

14. ---- ils iront en vacances en Europe.  
A) Hier  
B) Avant-hier  
C) Lundi dernier  
D) Le mois prochain

15. A: Tu viens à mon anniversaire?  
B: ----.  
A) S'il a soif, il veut boire du lait  
B) Si je vais mieux, je veux venir  
C) S'il y a un bon film, je veux aller  
D) S'il a faim, il mange de la salade

16. Tunç n'a pas fait ses devoirs, car ---- un film d'action à la télé.  
A) c'était  
B) il y avait  
C) il faisait froid  
D) il faisait chaud

17. Mme Dupont : Sylvie, je n'ai plus de viande, tu peux aller ----?  
Sylvie : D'accord, il faut autre chose?  
Mme Dupont : Oui, du poulet pour demain.  
A) à l'hôtel  
B) à la librairie  
C) à la boucherie  
D) à la boulangerie

18. Il peut conduire mais il faut être ----.  
A) longue B) attentif  
C) nouveau D) hypocrite

19- 20. sorularda verilen resme göre cümlede boş bırakılan kısmı tamamlayan sözcük ya da ifadenin bulunduğu seçeneği işaretleyiniz.


19.



Mme Dupont qui est ---- a deux chats et deux chiens.

- A) une jeune fille  
B) un vieil homme  
C) une fausse amie  
D) une vieille femme

20.



Quand il fait beau, ----.

- A) il lave sa moto  
B) il répare son vélo  
C) il monte à cheval  
D) il voyage à dos de chameau

### (511) FIKIH – 1

1. Fıkıh ilminde bir hükmün Kur'an'a ve sünnete uygun olduğunu ifade eden kavram aşağıdakilerden hangisidir?  
A) Adli B) Şer'i  
C) Ahlaki D) İstinbat
2. Aşağıdakilerden hangisi fıkıh ilminin konuları arasından çıkarılmıştır?  
A) Muamelat B) İbadât  
C) Ukubat D) İtikat
3. "Eşyada aslolan ibahadır." (Yasaklanmayan her şey mubahtır.) ilkesi aşağıdakilerden hangisi ile ilgilidir?  
A) Helallerde genişlik  
B) Hükümlerde tedricilik  
C) Adaletin gerçekleşmesi  
D) Kamu yararının gözetilmesi
4. Aşağıdakilerden hangisi mezhepler öncesi dönemlerden biri değildir?  
A) Taklit dönemi  
B) Tabiin dönemi  
C) Sahabe dönemi  
D) Peygamber dönemi



## 1. OTURUM

5. Ebu Hanife'nin hüküm vermede kullandığı en belirgin yöntem aşağıdakilerden hangisidir?

- A) İstishab deliline sıkça başvurmak
- B) Akla ve reye büyük önem vermek
- C) Medine halkının uygulamasını delil saymak
- D) Ehl-i beyt kanalıyla nakledilen hadisleri muteber kabul etmek

6. • Miladi 699-765 yılları arasında Medine'de yaşamıştır.  
• Ebu Hanife ve Süfyan-ı Sevri kendisinden ders almıştır.  
• Şia'nın büyük çoğunluğu onun görüşlerini benimsemiştir.

**Hakkında bilgi verilen mezhep imamı kimdir?**

- A) Muhammed b. İdris eş-Şafii
- B) Ahmet b. Hanbel
- C) Cafer-i Sadık
- D) Malik b. Enes

7. Aşağıdakilerden hangisi fikhî mezheplerin doğuşunu hazırlayan sebeplerden biri değildir?

- A) Siyasi görüş ayrılıkları
- B) Yeni problemlerin ortaya çıkması
- C) Dini metinlerin yoruma açık olması
- D) Ayetlerin vahiy kâtiplerine yazdırılması

8. Aşağıdakilerden hangisi "mükellefiyetin temel şartları"ndan biri değildir?

- A) Ergenlik çağına girmek
- B) Akli olgunluğa erişmek
- C) Müslüman olmak
- D) Mukim olmak

9. Sünnetin hükmü ile ilgili verilen bilgilerden hangisi doğrudur?

- A) Her mükellefin yapması zorunludur.
- B) Terk eden kişi günah işlemiş olur ve kınanır.
- C) Yapan sevap kazanır, terk eden günah işlemiş olmaz.
- D) Yapılmasında ya da yapılmamasında sevap ve günah yoktur.

10. Aşağıdaki davranışlardan hangisi müstehaptır?

- A) Sadaka vermek
- B) Kumar oynamak
- C) Ramazan orucu tutmak
- D) Namazları kerahet vaktine bırakmak

11. Aşağıdakilerden hangisi icma ile alınan karara örnek oluşturmaz?

- A) Kur'an'ın Mushaf haline getirilmesi
- B) Namaz kılarken kıbleye dönülmesi
- C) Cuma namazında iç ezan okunması
- D) Bir şehirde birden fazla cami de cuma namazı kılınması

12. Faize yol açabileceğinden, borçlunun alacaklıya hediye vermesi uygun değildir.

**Fıkıhın bu ilkesi aşağıdaki kavramlardan hangisi ile ilgilidir?**

- A) İstishab
- B) İstihsan
- C) Sedd-i Zerai
- D) Mesalih-i Mürsele

13. Aşağıdakilerden hangisi fikhî hükümlerden "ruhsat"a bir örnektir?

- A) Namazın tek başına kılınabilmesi
- B) Şartları tutan herkesin zekât vermesi
- C) Hastanın, orucunu kazaya bırakabilmesi
- D) Akil- baliğ her Müslümana namazın farz kılınması

14. İctihat farklılıkları aşağıdakilerden hangisine zemin hazırlamıştır?

- A) Fikhî mezheplerin doğuşuna
- B) Hadis eserlerinin telif edilmesine
- C) Kur'an'ın kitap haline getirilmesine
- D) Hafızlık müessesesinin gelişmesine

15. "Müçtehit, içtihat ederek bir hüküm verdiğinde, verdiği hüküm doğru ise iki, hatalı ise bir sevap alır."

**Aşağıdakilerden hangisi bu hadisten çıkarılacak bir sonuç değildir?**

- A) Hz. Peygamber içtihadı teşvik etmiştir.
- B) İslam bireysel düşünceye önem vermiştir.
- C) Müçtehidin yanlış hüküm verme ihtimali vardır.
- D) Müçtehidin verdiği hüküm yanlış olsa bile uygulanmalıdır.

16. Aşağıdakilerden hangisi müçtehit sahabelerden biridir?

- A) Said bin el-Müseyyeb
- B) Abdullah b. Mesut
- C) İbrahim en-Nehai
- D) Ata b. Ebi Rebah

17. Aşağıdakilerden hangisi içtihadı gerek duyulmasının nedenlerinden biri olamaz?

- A) Sosyal değişimin kaçınılmaz oluşu
- B) Kur'an'da her konunun yer almaması
- C) Kur'an-ı Kerim'in yirmi üç yılda indirilmiş olması
- D) Şartlar değişikçe hükümlerin de değişebilir olması

18. Bir ibadeti bozan, bir antlaşmayı tamamen ya da kısmi olarak geçersiz kılan fiillere ne denir?

- A) Müfsit
- B) Mübah
- C) Mekruh
- D) Müstehab

19. "Neden söylediğimizi ve delillerimizi bilmeden, bizim görüşümüzle fetva vermek hiçbir kimse için helal değildir."

**Ebu Hanife bu sözünü aşağıdakilerden hangisini vurgulamıştır?**

- A) İctihat kapısı açık tutulmalıdır.
- B) Fetva yetkisi belirli kişilerdedir.
- C) Herkes hükmünü kendi vermelidir.
- D) Taklit ve taassuptan kaçınılmalıdır.

## 1. OTURUM

20. Aşağıdakilerden hangisi müçtehitte aranan şartlardan biridir?

- A) Hafız olmak
- B) Erkek olmak
- C) Sahabe olmak
- D) Kuran ve sünneti bilmek

(532) HZ. MUHAMMED'İN HAY. – 2

1. Aşağıdakilerden hangisi Hz. Peygamber'in davranışlarından biri değildir?

- A) Kimsesizlere sahip çıkmak
- B) İnsanlara eşit davranmak
- C) Sözünü yerine getirmek
- D) Akrabalarını kayırmak

2. Aşağıdakilerden hangisi Allah katında üstünlüğün ölçüsüdür?

- A) Müslüman bir ülkede doğmak
- B) Peygamber soyundan gelmek
- C) Kur'an'ın emirlerine itaat etmek
- D) Dünyada makam sahibi olmak

3. "Kulun, zihnini, kalbini ve tüm organlarını, kendisine Allah'ı unutturacak her şeyden uzak tutması, Allah'a duyduğu sevgi ve saygıyı güçlendirmesi, bu saygıyı zedelemekten korkması" anlamına gelen kavram aşağıdakilerden hangisidir?

- A) Takva
- B) Hamd
- C) Ahlak
- D) Din

4. Kur'an-ı Kerim' de Allah (c.c) miras taksiminde kendilerine pay düşmeyen bazı gruplara da pay verilmesini tavsiye etmiştir.

Aşağıdakilerden hangisi bu gruplardan biri değildir?

- A) Akrabalar
- B) Yetimler
- C) Âlimler
- D) Fakirler

5. "Allah Teâlâ: Birbirinize karşı alçak gönüllülük ediniz ki hiç kimse hiç kimseye üstünlük taslamasın. diye bana vahyetti."

Bu hadis ile aşağıdaki davranışlardan hangisi yasaklanmıştır?

- A) Haset
- B) Kibir
- C) İhanet
- D) Dedikodu

6. Aşağıdakilerden hangisi mağduriyet durumu olarak değerlendirilmez?

- A) Yetim kalmak
- B) Engelli olmak
- C) Öğrenci olmak
- D) Haksızlığa uğramak

7. "Ashabı kirama Hz. Peygamber'den daha sevimli bir kimse yoktu. Buna rağmen Hz. Peygamber'i gördüklerinde, kendisi için ayağa kalkılmasından hoşlanmayacağını bildiklerinden kalkmazlardı."

Bu durum Hz. Peygamber'in aşağıdaki özelliklerinden hangisi ile ilgilidir?

- A) Mütevazılığı
- B) Dürüstlüğü
- C) Cesareti
- D) Adaleti

8. "Hiçbiriniz kendiniz için arzu ettiğinizi kardeşiniz için arzu etmedikçe, kemaliyle iman etmiş olmazsınız."

Bu hadiste aşağıdakilerden hangisi vurgulanmıştır?

- A) Empati
- B) Eşitlik
- C) Merhamet
- D) İstişare

9. Hz. Peygamber Mûte savaşında şehit olan amcasının oğlu Cafer'in ailesine sahip çıkmış ve ailesiyle yakından ilgilenmişti.

Bu durum Hz. Peygamber'in aşağıdaki özelliklerinden hangisiyle ilişkilendirilemez?

- A) Akrabayı koruması
- B) Yetimlere sahip çıkması
- C) Muhtaca yardım etmesi
- D) İnsanlara karşı affedici olması

10. Aşağıdakilerden hangisi istişarenin sonuçlarından biridir?

- A) Tevekkül ortadan kaldırması
- B) Sorunsuz bir hayata kavuşturması
- C) Düşünce özgürlüğüne engel olması
- D) Sorumlulukların paylaşılmasını sağlaması

11. Günümüzde sokak çocuklarının sayılarının artmasında aşağıdakilerden hangisinin etkili olduğu söylenemez?

- A) Eğitim yetersizliği
- B) Yanlış arkadaş seçimi
- C) Sünnete uygun yaşam
- D) Ebeveynlerin sorumsuz davranışları

12. Hz. Peygamber, Hz. Üsâme b. Zeyd'i hangi özelliğinden dolayı ordu komutanı olarak görevlendirmiştir?

- A) Köle olması
- B) Liyakat sahibi olması
- C) Hz. Zeyd'in çocuğu olması
- D) Hz. Peygamber'in gözetiminde büyümesi

13. "Ey iman edenler! Adaleti ayakta tutan, kendiniz, ana-babanız ve akrabanız aleyhinde de olsa, Allah için şahitlik eden kimseler olun..." (Nisa suresi, 135. ayet)

Bu ayette aşağıdaki konulardan hangisi vurgulanmıştır?

- A) Kullukta eşitlik
- B) Hukukta eşitlik
- C) Yaratılıştaki eşitlik
- D) Sosyal statüde eşitlik

14. Aşağıdaki ifadelerden hangisi aile kurmaya teşvik etme ile ilişkilendirilemez?

- A) Bekârlık sultanlıktır.
- B) Nikâhta keramet vardır.
- C) Nikâh benim sünnetimdir. (Hadis)
- D) Garibin yuvasını Allah yapar.

15. Aşağıdaki davranışlardan hangisi mağdura yardım olarak kabul edilir?

- A) Toplu taşıma araçlarına engelli asansörleri yapmak
- B) 18 yaşından küçükler için alkol satımını yasaklamak
- C) Çocuklara meslek seçimlerinde rehberlik etmek
- D) İş arkadaşlarını iftar yemeğine davet etmek

## 1. OTURUM

(609) MATEMATİK – 6

16. Aşağıdakilerden hangisi Hz. Muhammed (sav.) tarafından tavsiye edilen davranışlardan biri değildir?

- A) Evleneceklerle maddi destek vermek
- B) Bekârları evlenmeye teşvik etmek
- C) Uygun eş bulduğunda evlenmek
- D) İnsanları evlenmeye zorlamak

17. Aşağıdaki ifadelerden hangisi istişare ile ilgilidir?

- A) Sadaka ömrü uzatır.
- B) Akıl akıldan üstündür.
- C) Yaş kesen baş keser.
- D) Din samimiyettir.

18. Aşağıdakilerden hangisi Hz. Peygamber'in istişareye başvurma sebeplerinden biri olamaz?

- A) Sorumluluğu başkasına yüklemek istemesi
- B) Bazı konuların uzmanlık gerektirmesi
- C) İnsanların görüşlerine değer vermesi
- D) Sorunları paylaşarak çözüme isteği

19. Aşağıdakilerden hangisi Hz. Peygamber'in danışılacak kişide aradığı özelliklerden biridir?

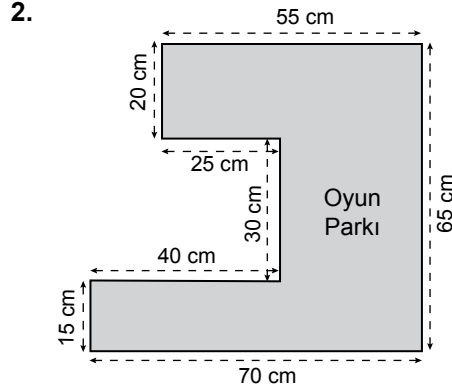
- A) Her konuda bilgi sahibi olması
- B) Danışandan daha yaşlı olması
- C) Güvenilir biri olması
- D) Erkek olması

20. İstişare ile ilgili aşağıdaki bilgilerden hangisi yanlıştır?

- A) Bilgi ve görüş paylaşımıdır.
- B) Hz. Peygamber'in sünnetidir.
- C) Bireysel konularda da yapılabilir.
- D) Tüm sorumluluk danışılan kişiye aittir.

1. Ölçeği  $\frac{1}{80\,000}$  olan bir planda 10 cm uzunluk gerçekte kaç kilometredir?

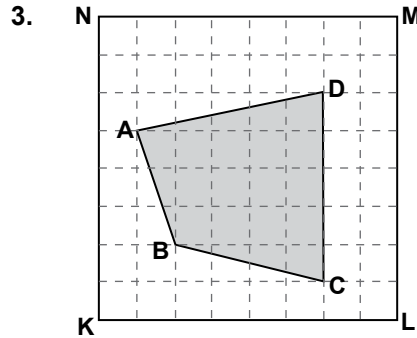
- A) 16 B) 12 C) 10 D) 8



Şekilde ölçeği  $\frac{1}{100}$  olan bir oyun parkının planı verilmiştir.

Bu oyun parkının gerçek çevresi kaç metredir?

- A) 320 B) 325  
C) 330 D) 335



Şekildeki KLMN karesinin alanı 64 birimkaredir. Buna göre A(ABCD) kaç birimkaredir?

- A) 36 B) 24 C) 18 D) 12

4. Uzun kenarının uzunluğu kısa kenarının uzunluğunun 2 katı olan bir dikdörtgenin çevresi 42 cm ise alanı kaç santimetrekaredir?

- A) 112 B) 98 C) 72 D) 56

5. Bir salonun tabanı, kenar uzunlukları 5 m ve 10 m olan dikdörtgen biçimindedir. Bu taban, kenar uzunlukları 25 cm ve 50 cm olan dikdörtgen biçimindeki fayanslarla hiç boşluk kalmayacak şekilde kaplanacaktır. Bunun için en az kaç fayans gerekir?

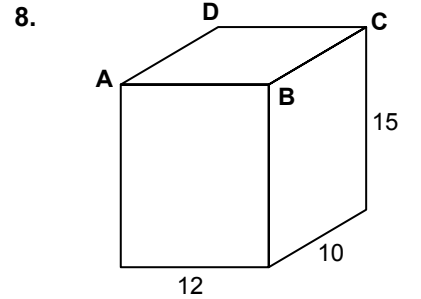
- A) 400 B) 425  
C) 450 D) 475

6. Boyutları 4 cm, 4 cm ve 12 cm olan kare dik prizmanın yüzey alanı kaç santimetrekaredir?

- A) 164 B) 192  
C) 200 D) 224

7. Yarıçapının uzunluğu 8 cm ve yüksekliği 14 cm olan silindirik biçimindeki kabın yarısı su ile dolu olduğuna göre suyun hacmi kaç santimetreküptür? ( $\pi$  yerine 3 alın.)

- A) 1320 B) 1344  
C) 1360 D) 1368



Yukarıdaki dikdörtgenler prizması şeklindeki tahtanın boyutları 10 cm, 12 cm ve 15 cm'dir. Bu tahtanın A, B, C ve D köşelerinden, bir ayrıntının uzunluğu 3 cm olan küp şeklinde birer parça kesilip çıkarılıyor. Buna göre kalan tahtanın hacmi kaç santimetreküptür?

- A) 1480 B) 1524  
C) 1692 D) 1736

## 1. OTURUM

9. Bir ayrırtının uzunluğu 90 cm olan küp biçimindeki tahta, hiç parça artmayacak şekilde bir ayrırtının uzunluğu 15 cm olan küp biçimindeki parçalara ayrılıyor. Her parçadan bir hediyelik eşya üretilip 5 liraya satılıyor. Buna göre tüm parçaların satışından toplam kaç lira elde edilir?

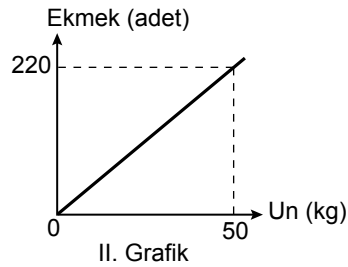
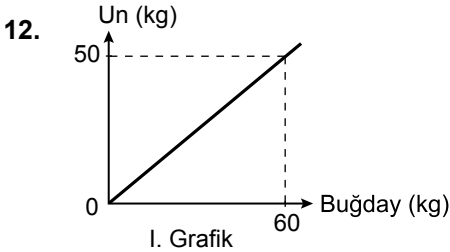
A) 940 B) 980  
C) 1040 D) 1080

10. Yarıçapının uzunluğu 10 cm olan bir küreyi içine alabilecek silindirin hacmi en az kaç santimetreküptür? ( $\pi$  yerine 3 alınız.)

A) 3000 B) 4000  
C) 5000 D) 6000

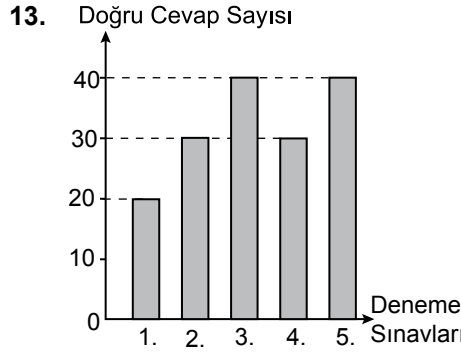
11. Bir sporcu kafilesinde 40 futbolcu, 30 basketbolcu ve 20 voleybolcu bulunmaktadır. Bu verilerin dağılımını gösteren daire grafiğinde basketbolcuların sayısına karşılık gelen daire diliminin merkez açısının ölçüsü kaç derece olur?

A) 160 B) 120  
C) 90 D) 80



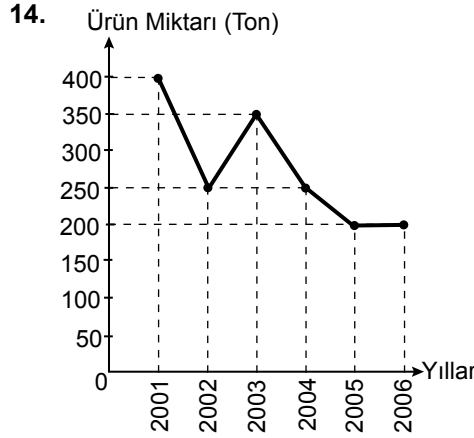
Şekildeki I. grafikte buğdaydan elde edilen un miktarı, II. grafikte undan elde edilen ekmek miktarı gösterilmiştir. Buna göre 1100 adet ekmek elde etmek için kaç kilogram buğday gerekir?

A) 200 B) 240  
C) 300 D) 360



Yukarıdaki grafikte her biri 40 soru olan 5 deneme sınavında Sevinç'in doğru cevapladığı soru sayılarının dağılımı verilmiştir. Buna göre Sevinç bu 5 sınavın her birinde ortalama kaç soruyu doğru cevaplamıştır?

A) 30 B) 32 C) 34 D) 36



Şekildeki grafikte bir fabrikanın 6 yıl boyunca ürettiği ürün miktarının yıllara göre değişimi verilmiştir. Grafığe göre ürün miktarındaki en fazla düşüş aşağıdaki hangi yıllar arasında olmuştur?

A) 2001-2002 B) 2002-2003  
C) 2003-2004 D) 2004-2005

15.

Ürün Çeşitleri	Gün Sayısı	Ürün Adedi
A	120	6000
B	180	4500

Yukarıdaki tabloda bir fabrikada üretilen A ve B ürünlerinin günlük üretim miktarları adet olarak verilmiştir. Buna göre 1500 adet B ürünü üretilen günde kaç adet A ürünü üretilir?

A) 2400 B) 2800  
C) 3000 D) 3200

16. Hilesiz bir zar ve düzgün bir madeni para havaya atılıyor. Zarın üst yüzüne gelen sayının 3'ten küçük ve paranın tura gelme olasılığı kaçtır?

A)  $\frac{1}{2}$  B)  $\frac{1}{3}$  C)  $\frac{1}{4}$  D)  $\frac{1}{6}$

17. 4 erkek, 7 kız arasından seçilecek olan 6 kişilik voleybol takımında 2 erkek, 4 kız olma olasılığı kaçtır?

A)  $\frac{7}{11}$  B)  $\frac{6}{11}$  C)  $\frac{5}{11}$  D)  $\frac{4}{11}$

18. Renkleri dışında aynı özelliğe sahip 3 kırmızı, 4 sarı topun bulunduğu torbadan aynı anda rastgele iki top çekilecektir. Çekilen topların aynı renkte olma olasılığı kaçtır?

A)  $\frac{2}{7}$  B)  $\frac{3}{7}$  C)  $\frac{4}{7}$  D)  $\frac{5}{7}$

19. 1'den 20'ye kadar numaralandırılmış aynı özellikteki 20 kart bir torbaya konuluyor. Torbadan rastgele bir kart çekildiğinde kartın üzerindeki sayının çift olma olasılığı kaçtır?

A)  $\frac{1}{2}$  B)  $\frac{1}{3}$  C)  $\frac{1}{4}$  D)  $\frac{1}{5}$

20. Ayşe ve Merve'nin matematik dersinden geçme olasılıkları sırasıyla  $\frac{2}{5}$  ve  $\frac{1}{3}$ 'tür. Bu iki öğrenciden en az birinin matematik dersinden geçme olasılığı kaçtır?

A)  $\frac{2}{15}$  B)  $\frac{2}{5}$  C)  $\frac{3}{5}$  D)  $\frac{13}{15}$

## 1. OTURUM

(611) KARŞ. DİN. TAR. – 1

1. “el-Asaru’l-Bakiye” ve “Kitabü’t-Tahkik Mali’l-Hint” adlı eserler hangi âlime aittir?

- A) Evliya Çelebi
- B) Gazali
- C) Maturidi
- D) Biruni

2. Karşılaştırmalı dinler tarihi ile ilgili aşağıdaki bilgilerden hangisi yanlıştır?

- A) Var olan bütün dinleri konu edinir.
- B) İlahi dinlerin doğruluğunu ispatlamaya çalışır.
- C) Kendine has “tarihi - karşılaştırmalı metod” a sahiptir.
- D) Mezhepleri hak veya batıl ayırımı yapmaksızın inceler.

3. Aşağıdakilerden hangisi dinler tarihi için kullanılan isimlerden biridir?

- A) Tarihi din-i İslam
- B) Tarihul mezahip
- C) Tarih-i edyan
- D) Tarihul duvel

4. İslam âlimleri dini tanımlarken aşağıdaki ifadelerden hangisine yer vermezler?

- A) İnsanları hayırlı işlere sevk etmeyi hedeflediğine
- B) Kaynağının peygamberler olduğuna
- C) Akıl sahiplerini muhatap aldığına
- D) Vahye dayalı olduğuna

5. Kudüs’ü fethedip orayı başkent yapan peygamber hangisidir?

- A) Hz. Davut
- B) Hz. Musa
- C) Hz. İbrahim
- D) Hz. Süleyman

6. • Hz. Musa’dan sekiz asır sonra Tevrat’ı yeniden yazmıştır.  
• Yahudi tarihinde mabedi ikinci kez inşa eden kişi olarak kabul edilir.  
• Yahudiler kendisini peygamber kabul etmemelerine rağmen ona peygamberden öte bir saygı gösterirler.

Hakkında bilgi verilen kişi aşağıdakilerden hangisidir?

- A) Lokman
- B) Ezra
- C) Zulkarneyn
- D) Hâman

7. Yahudilikte önemli bir yeri olan kurban ibadetinin günümüzde askıya alınmasının sebebi aşağıdakilerden hangisidir?

- A) Kurban ibadetinin yerine getirildiği kutsal mabedin yıkılmış olması
- B) Kurbanın Mesih’in dünyaya gelmesi ile farz olacağına inanmaları
- C) Hz. İsa’nın tüm insanlar için kendini kurban ettiğini düşünmeleri
- D) Müslümanlar ile aynı ibadeti yapmak istememeleri

8. Protestan mezhebinin kurucusu kimdir?

- A) Arius
- B) Pavlus
- C) Nestoryus
- D) Martin Luther

9. Aşağıdakilerden hangisi Hristiyanlığa ait bir kavram değildir?

- A) Vaftiz
- B) Günah İtirafı
- C) Kutsal Toprak
- D) Son Yağlama

10. “... ‘Ey İsrail oğulları! Şüphesiz ben, Allah’ın size, benden önce gelen Tevrat’ı doğrulayıcı ve benden sonra gelecek, Ahmed adında bir peygamberi müjdeleyici olarak gönderdiği peygamberiyim’ demişti...” (Saff suresi, 6. Ayet)

Bu ayette İsrailoğullarına hitap eden peygamber hangisidir?

- A) Hz. İsa
- B) Hz. Musa
- C) Hz. Davut
- D) Hz. Muhammed

11. Mekkeli müşrikler ile ilgili aşağıdaki ifadelerden hangisi yanlıştır?

- A) Dünyayı Allah’ın yarattığına inanırlardı.
- B) Her kabilenin kendine ait putları bulunurdu.
- C) Erkek çocuklarını kız çocuklarından üstün tutarlardı.
- D) Dinlerine ait kutsal kabul ettikleri yazılı metinleri vardı.

12. İslam’a göre aşağıdakilerden hangisi doğrudur?

- A) Allah’a eş koşmak en büyük günahdır.
- B) Araplar diğer insanlardan daha üstündür.
- C) Din adamları Allah ile kul arasında aracıdır.
- D) Kur’an-ı Kerim’in mesajları gönderildiği bölge ile sınırlıdır.

13. Aşağıdakilerden hangisi ilk Müslümanlardan biri değildir?

- A) Hz. Ali
- B) Hz. Zeyd
- C) Hz. Abbas
- D) Hz. Ebu Bekir

14. Aşağıdakilerden hangisi Hint dinlerinden biridir?

- A) Budizm
- B) Şintoizm
- C) Zerdüştlük
- D) Konfüçyanizm

15. Kast sistemi ile ilgili aşağıdaki bilgilerden hangisi yanlıştır?

- A) Kast sistemi, Hinduizm’de dini bir inançtır.
- B) Kast seçimi kişinin iradesine bırakılmıştır.
- C) Kastlar, tanrı Brahman’ın uzuvlarından yaratılmışlardır.
- D) Kast sisteminin en alt basamağını işçiler ve hizmetçiler oluşturur.

16. “Ahura Mazdah” aşağıdaki dinlerin hangisinde tanrı kabul edilmektedir?

- A) Sihizm
- B) Taoizm
- C) Budizm
- D) Zerdüştlük

## 1. OTURUM

17. Aşağıdakilerden hangisi milli karakterli dinlerden biri değildir?

- A) Hinduizm B) İslamiyet  
C) Şintoizm D) Yahudilik

18. Aşağıdakilerden hangisi kabile dinlerinin özelliklerinden biridir?

- A) Evrenseldirler.  
B) Bir kurucusu vardır.  
C) Büyüye aşırı bir ilgi gösterilir.  
D) Yüce tanrı inancına yer verilmez.

19. Kabile dinlerinde, dini ayin ve törenlerle meşgul olan ve ruhlar âlemiyle iletişim kurduğuna inanılan kişilere ne isim verilir?

- A) Tao B) Guru  
C) Rahip D) Şaman

20. Aşağıdakilerden hangisi İslamiyet ile Hristiyanlığın ortak düşüncelerinden biridir?

- A) İncil tahrif edilmiştir.  
B) Kur'an-ı Kerim son ilahi kitaptır.  
C) Tevrat Hz. Musa'ya indirilmiştir.  
D) Hz. İsa, ilahi özelliklere sahiptir.

### (617) SEÇ. DİL VE ANLA. – 7

1. Şakaklarım kar mı yağdı ne var? Benim mi Allah'ım bu çizgili yüz? Ya gözler altındaki mor halkalar Neden böyle düşman görürsünüz Yıllar yılı dost bildiğim aynalar? **Bu dizeler için aşağıdakilerden hangisi söylenemez?**

- A) Sanatsal bir metinden alınmıştır.  
B) Mecaz anlamlı sözcükler vardır.  
C) Bilgi vermek amacıyla yazılmıştır.  
D) Dil, şiirsel işlevde kullanılmıştır.

2. Aşağıdakilerden hangisi göstermeye bağlı sanatsal metinlerdendir?

- A) Fabl B) Masal  
C) Roman D) Tiyatro

3. Aşağıdakilerin hangisinde fabl ile ilgili bilgi yanlış vardır?

- A) Sadece nesir şeklinde yazılır.  
B) Kahramanları çoğunlukla hayvanlardır.  
C) Sonunda ahlak dersi verilir.  
D) Teşhis ve intak sanatları üzerine kurulmuştur.

4. Bir varmış, bir yokmuş. Bir padişah varmış. Bu padişahın gayet güzel, akıllı bir kızı varmış. Kız her sabah yatağından kalkarmış, babasının odasına gider, onun elini öpermiş; babası da kızın iki yanağından öper, ona: "Hayırdır inşallah, ne rüya gördün?" diye sorarmış. Kız da rüyasını anlatmış. Bu, böyle yıllarca sürüp gitmiş.

**Bu parça aşağıdaki metin türlerinin hangisinden alınmıştır?**

- A) Fabl  
B) Masal  
C) Manzum hikâye  
D) Tiyatro

5. Manzume ve şiir karşılaştırmasına dair aşağıdakilerin hangisinde bilgi yanlış vardır?

- A) Şiirde olay örgüsü yoktur, manzumede belirli bir olay örgüsü vardır.  
B) Şiirde sözcükler genellikle gerçek anlamıyla kullanılırken manzumede çok anlamlılık ve imge ağır basar.  
C) Şiirde coşku ve heyecan ön plandayken manzumelerin öğretici yönü vardır.  
D) Şiirin düzyazıyla ifadesi zordur, manzumeler düzyazıya çevrilebilir.

6. I. Yüksek ve soylu bir üslup kaygısı vardır.  
II. Acı veren olaylar sahnede gösterilmez.  
III. Kişiler, çoğunlukla halktan insanlardır.  
IV. Konular günlük hayattan alınır.  
**Komedy ile ilgili numaralanmış özelliklerden hangileri yanlıştır?**

- A) I ve II. B) II ve III.  
C) II ve IV. D) III ve IV.

7. Romanda belli bir sınıfı ya da belli bir insan eğilimini temsil eden kişi - - - -, olumlu ve olumsuz yönleriyle ile verilen, genel temsil özelliği göstermeyen kişiler ise - - - - olarak adlandırılır.

**Bu parçada boş bırakılan yerlere aşağıdakilerden hangisi sırasıyla getirilmelidir?**

- A) aktris – aktör  
B) karakter – tip  
C) figüran – başoyuncu  
D) tip – karakter

8. Aşağıdakilerden hangisi olay hikâyeciliğinin edebiyatımızdaki güçlü temsilcilerindendir?

- A) Sait Faik Abasıyanık  
B) Memduh Şevket Esenal  
C) Ömer Seyfettin  
D) Tarık Buğra

9. Kalem böyle çalınmıştır yazıma Yazım kışıma uymaz, kışım yazıma **Bu dizelerde aşağıdaki edebî sanatlardan hangisi vardır?**

- A) Teşbih (benzetme)  
B) İntak (konuşturma)  
C) Cinaz  
D) Teşhis (kişileştirme)

10. - Kuruluşlarındaki özellikle öteki masal türlerinden ayrılır.  
- Küçük, önemsiz olayların birbiri ardına bağlanmasıyla oluşturulmuştur.  
- Bağlantı ögesinin sayısı ölçüsünde masal uzayıp gider.

**Bu özellikler aşağıdaki masal türlerinden hangisine aittir?**

- A) Gerçekçi masallar  
B) Zincirlemeli masallar  
C) Hayvan masalları  
D) Olağanüstü masallar

11. I. Leyla ile Mecnun  
II. Dede Korkut Hikâyeleri  
III. Yusuf ile Züleyha  
IV. Kerem ile Aslı  
**Numaralanmış halk hikâyelerinden hangileri Türk kaynaklıdır?**

- A) I ve II. B) I ve III.  
C) II ve III. D) II ve IV.

## 1. OTURUM

12. Rönesans'tan sonra Giovanni Boccaccio - - - - adlı eseriyle öykü türünün ilk örneğini vermiş ve çağdaş öykücülüğün başlatıcısı olmuştur.  
**Bu cümlede boş bırakılan yere aşağıdakilerden hangisi getirilmelidir?**

A) Decameron  
B) Ay Işığı  
C) Don Kişot  
D) Vişne Bahçesi

13. Orta oyunu ile ilgili aşağıdakilerin hangisinde **bilgi yanlış** vardır?

A) Belli bir olayın çevresinde örölmüş çalgı, şarkı, dans, taklit ve konuşmalardan oluşur.  
B) Seyircilerle çevrili bir alanda, belli bir konu çevresinde, yazılı bir metne sadık kalarak oynanan oyunlardır.  
C) Dekor olarak "yeni dünya" adı verilen bir paravana ile "dükkân" adı verilen birkaç alçak iskemle kullanılır.  
D) Oyunun iki başkişisi, Hacivat'la Karagöz'ün karşılığı sayabileceğimiz Pişekâr ile Kavuklu'dur.

14. Hayaliyle tesellüdür gönül, meyl-i visâl itmez  
Gönülden taşra bir yâr olduğun âşık hayâl itmez  
**Bu dizeler aşağıdaki şiir geleneklerinden hangisiyle yazılmıştır?**

A) Halk edebiyatı  
B) Millî Edebiyat  
C) Divan edebiyatı  
D) Cumhuriyet Dönemi

15. Aşağıdakilerden hangisi Dünya edebiyatında fabl türünün en tanınmış sanatçılarındandır?

A) La Fontaine  
B) Victor Hugo  
C) Fenelon  
D) Cervantes

16. • Gülünç, bayağı, korkunç olaylarla acıklı, ince ve güzel olayları iç içe anlatan bir tiyatro türüdür.  
• Nazım veya nesir şeklinde yazılabilir.  
• Kişileri her tabakadan halk ve her türden insan olabilir.  
**Bu özellikler aşağıdaki tiyatro türlerinden hangisine aittir?**

A) Komediya B) Tragedya  
C) Meddah D) Dram

17. Aşağıdakilerden hangisi Türk şiirinin millî nazım birimidir?

A) Dörtlük B) Beyit  
C) Bent D) Üçlük

18. Dış âlemdeki olaylardan çok kahramanlarının iç dünyasını anlatan romanlardır. Bu romanlarda ayrıntılı ruh tasvirlerine yer verilir. Mehmet Rauf'un "Eylül"ü, Peyami Safa'nın "Dokuzuncu Hariciye Koşuşu" adlı eseri bu roman türüne örnektir.  
**Bu parçada hakkında bilgi verilen roman türü aşağıdakilerden hangisidir?**

A) Macera  
B) Otobiyografik  
C) Tarihî  
D) Psikolojik

19. Aşağıdakilerden hangisi edebiyatımızın önemli masal derleyicilerindendir?

A) Eflatun Cem Güney  
B) Ahmet Hamdi Tanpınar  
C) Ömer Seyfettin  
D) Halit Ziya Uşaklıgil

20. Seni düşünürken  
Bir çakıl taşı ısınır içimde  
Bir kuş gelir yüreğimin ucuna konar  
Bir gelincik açılır ansızın  
Bir gelincik sinsi kanar  
**Bu dizelere hâkim olan tema aşağıdakilerden hangisidir?**

A) Ölüm B) Aşk  
C) Ayrılık D) Doğa

(618) SEÇ. DİL VE ANLA. – 8

1. Aşağıdaki sözlü anlatım türlerinin hangisinde grup tartışması yoktur?

A) Münazara  
B) Açık oturum  
C) Konferans  
D) Sempozyum

2. Kimya Profesörü Ahmet Bey yeni buluşunu bilim dünyasına açıklamak istemektedir.  
**Ahmet Bey'in bu amacına en uygun sözlü anlatım türü aşağıdakilerden hangisidir?**

A) Konferans  
B) Münazara  
C) Sempozyum  
D) Açık oturum

3. Gelişim psikolojisi dersinde öğretmen, öğrencilerin iki gruba ayrılarak "Gelişimde zekâ mı, kalıtım mı etkilidir?" konusunu tartışmalarını istemiştir.  
**Öğrencilerin bu tartışmayı aşağıdaki sözlü anlatım türlerinden hangisini kullanarak gerçekleştirmeleri uygun olur?**

A) Forum  
B) Açık oturum  
C) Münazara  
D) Sempozyum

4. 12. sınıf öğrencisi Onur, izlediği bir tartışmada dinleyicilerin oturum başkanından söz alıp sorular sorduklarını görmüştür.  
**Onur'un izlediği tartışmanın türü aşağıdakilerden hangisidir?**

A) Münazara  
B) Konferans  
C) Sempozyum  
D) Forum

## 1. OTURUM

5. Konferansçının aşağıdakilerden hangisini yapması doğru olmaz?

- A) Çok dikkat çekici şekilde giyinmemeli, ölçülü olmalıdır.
- B) Ses tonunu çok iyi ayarlamalı, ne çok yüksek ne de kısık sesle konuşmalıdır.
- C) Anlatacağı konuyu derinlemesine ele almalı, konferansı mümkünse uzatmalıdır.
- D) Gerekli yerlerde görsel materyalleri kullanıp ilgi çekmelidir.

6. Aşağıdaki konulardan hangisi münazara için uygun değildir?

- A) Çok gezen mi çok okuyan mı bilir?
- B) Eğitimde teknoloji gerekli midir?
- C) Küresel ısınmanın çevre üzerindeki etkileri nelerdir?
- D) Para ile saadet olur mu?

7. Açık oturum ile ilgili aşağıdakilerden hangisi yanlıştır?

- A) Açık oturum sırasında başkan konuşmacılara sırasıyla sorular sorabilir.
- B) Açık oturumlarda bir yarışma, rekabet havası vardır.
- C) Amacı problemlere yeni bakış açıları getirmektir.
- D) Geniş bir salonda izleyici önünde yapılır.

8. Aşağıdaki kavramların hangisi yanlış tanımlanmıştır?

- A) Kaynakça: Belli bir konu, yer veya dönemle ilgili yayınları kapsayan veya en iyilerini seçen eser.
- B) Dokümantasyon: Bir konu hakkındaki bilgilerin toplanması, analiz edilmesi, saklanması ve duyurulması, belge bilimi.
- C) İndeks: Bir kitabın veya derginin kişi, konu, yer adı vb. bakımından içindekileri yer numarasıyla belirten liste, dizin.
- D) Bibliyografya: Sayfa içinde geçen herhangi bir düşünce veya bilgi ile ilgili olarak sayfa altına konan açıklama.

9. Makale türü gazete ve dergilerin ortaya çıkışıyla başlamıştır. İlk gazetenin MÖ 1750 civarında ---- çıktığı tahmin edilmektedir.

**Bu cümlede boş bırakılan yere aşağıdakilerden hangisi getirilmelidir?**

- A) Eski Yunan'da
- B) Bizans'ta
- C) Roma'da
- D) Mısır'da

10. Forum başkanıyla ilgili aşağıdakilerden hangisi söylenemez?

- A) Başkan tartışma konusunu çok iyi bilmeli ve dinleyicileri iyi tanımalı.
- B) Farklı düşünceler arasında ilişkiler kurabilecek anlayışa sahip olmalı.
- C) Düşünceleriyle katılımcıları etkileyip yönlendirmeli.
- D) Tartışma sırasında kargaşaya yol açacak girişimleri önlemeli.

11. • Önceden belirlenmiş bir konuşmacı grubu bulunur.  
• Bir gün sürebileceği gibi birkaç gün de sürebilir.  
• Konuşmalar oturumlar hâlinde devam eder.  
**Bu özellikler aşağıdaki tartışma türlerinden hangisine aittir?**

- A) Açık oturum
- B) Sempozyum
- C) Konferans
- D) Münazara

12. Bir açık oturumda başkan olarak görevlendirilen Yunus Bey şu noktalara dikkat etmiştir:

- I. Her bir konuşmacıya eşit süre vermeye çalışmıştır.
- II. Tartışmanın kavgaya dönüşmesine izin vermemiştir.
- III. Kimi zaman kendisi tartışmaya doğrudan katılıp düşüncelerini savunmuştur.
- IV. Konuşmacılara sorular yönelterek onların fikirlerini açıklamalarını sağlamıştır.

**Yunus Bey bu açık oturumla ilgili kaç numaralı cümlede yanlış bir davranışta bulunmuştur?**

- A) I. B) II. C) III. D) IV.

13. Bir fizik profesörünün suyun kaldırma gücü ile ilgili yazdığı bir makale aşağıdaki metin türlerinden hangisi içinde sınıflandırılır?

- A) Bilimsel Yazılar
- B) Anlatmaya Bağlı Metinler
- C) Coşku ve Heyecanı Dile Getiren Metinler
- D) Göstermeye Bağlı Metinler

14. Sempozyum bildiriyle ilgili aşağıdakilerin hangisinde bilgi yanlış vardır?

- A) Konferans ile büyük ölçüde benzerlik gösterir.
- B) Sanatsal metinler içinde değerlendirilir.
- C) Bilimsel bir yenilik getirmelidir.
- D) Genellikle yayımlanan bir yazı türüdür.

15. ---, bir sorun üzerinde bütün ilgililerin görüşlerini öğrenmek için yapılan bir toplantı türüdür.

**Bu cümlede boş bırakılan yere aşağıdakilerden hangisi getirilmelidir?**

- A) Forum
- B) Konferans
- C) Münazara
- D) Brifing

16. Tartışmalarda dinleyicilerin aşağıdaki davranışlardan hangisinin göstermesi uygun değildir?

- A) Konuşmacılara sorularını sözhakkı alarak sormalıdır.
- B) Kendi düşüncesini sonuna kadar savunarak salondakileri ikna etmeye uğraşmalıdır.
- C) Gerekli yerlerde kısa kısa notlar almalıdır.
- D) Konuşmaları tarafsız bir şekilde ve sabırla dinlemelidir.



## 1. OTURUM

(624) SEÇ. TÜRK ED. – 4

17. Bilimsel yazılarla ilgili aşağıdakilerden hangisi söylenemez?

- A) Bu türdeki yazıların amacı bilgi vermektir.
- B) Kaynak göstermeden alıntı yapma imkânı vardır.
- C) Ciddi, bilimsel bir dil kullanılır.
- D) Belli bir yazma planına uyulur.

18. - Yönetimi güç bir toplantıdır.  
- Sosyal bir sorunun geniş kitleler önünde bütün ayrıntılarıyla tartışılması en belirgin özelliğidir.  
- Dinleyiciler aktif olarak tartışmanın içinde yer alır.

**Bu özellikler aşağıdaki tartışma türlerinden hangisine aittir?**

- A) Münazara
- B) Konferans
- C) Sempozyum
- D) Forum

19. I. Daha önce verilen örnekleri sıkça tekrarlamak  
II. Tartışma konusu dışına çıkmamak  
III. Aynı konuda sürekli söz almaya çalışmak  
IV. Ortaya çıkan sonucu hoşgörüyle karşılamak

**Numaralanmış cümlelerden hangileri münazarada uyulması gerekenlerden biri değildir?**

- A) I ve II.
- B) I ve III.
- C) II ve III.
- D) III ve IV.

20. Aşağıdaki sözlü anlatım türlerinin hangisinde oturumu yöneten bir başkanın olması zorunlu değildir?

- A) Konferans
- B) Açık oturum
- C) Sempozyum
- D) Münazara

1. **Doğu Türkçesi olarak bilinen Karahanlı Türkçesinin XV. yüzyıldan sonraki devamı niteliğinde olan dil aşağıdakilerden hangisidir?**

- A) Osmanlı Türkçesi
- B) Türkiye Türkçesi
- C) Çağatay Türkçesi
- D) Azerbaycan Türkçesi

2. I. Alegorik bir eserdir.  
II. Siyasetname niteliği taşıyan bir mesnevidir.  
III. Beyitler hâlinde yazılmış didaktik bir eserdir.

**Numaralanmış cümlelerle hakkında bilgi verilen eser aşağıdakilerden hangisidir?**

- A) Kutadgu Bilig
- B) Divan-ı Hikmet
- C) Atabetü'l Hakayık
- D) Muhâkemetü'l Lügateyn

3. Kutadgu Bilig kahramanlarından her biri, bir kavramı temsil etmektedir.

**Buna göre aşağıdaki eşleştirmelerden hangisi yanlıştır?**

- A) Ay Toldı – Mutluluk
- B) Kün Togdı – Adalet
- C) Ögdilmiş – Akıl, anlayış
- D) Odgurmış – Cesaret

4. **Aşağıdakilerden hangisi Geçiş Dönemi'nin özellikleri arasında sayılamaz?**

- A) Hem dörtlük hem beyit kullanılmıştır.
- B) Eserler genellikle didaktik nitelik taşır.
- C) Eserlerde aşk, doğa ve kahramanlık konusu işlenmiştir.
- D) Hece ölçüsünün yanında aruz ölçüsü de kullanılmıştır.

5. Halk şairleri eskiden toplumun önemli bir üyesi sayılırdı. Kopuz eşliğinde söyledikleri şiirler, halkın iyi ve kötü günlerinde çok etkiliydi. Bu şairlere Türk boylarında ----, ----, ---- gibi adlar verilir.

**Bu parçada boş bırakılan yerlere aşağıdakilerden hangisi getirilemez?**

- A) kam
- B) baksı
- C) şaman
- D) mahlas

6. **Aşağıdaki eser – sanatçı eşleştirmelerinden hangisi yanlıştır?**

- A) Kutadgu Bilig – Ali Şir Nevai
- B) Divanü Lügati't Türk – Kaşgarlı Mahmut
- C) Atabetü'l Hakayık – Edip Ahmet Yükeki
- D) Divan-ı Hikmet – Hoca Ahmet Yesevi

7. **1277 yılında Karamanoğlu Mehmet Bey'in, fermanında "Bugünden sonra divanda, dergâhta, bergâhta, mecliste, meydanda Türkçeden başka bir dil kullanılmayacaktır." demesinin asıl amacı aşağıdakilerden hangisidir?**

- A) Türkçeyi edebî bir dil hâline getirmek
- B) Türkçeyi diğer dillerin etkisinden korumak
- C) Türkçenin zengin bir dil olduğunu ortaya koymak
- D) Türkçenin çok köklü bir dil olduğunu hatırlatmak

8. İlahilere çeşitli tekke ve dergâhlarda ----, ----, ---- gibi adlar verilmiştir.

**Bu cümlede boş bırakılan yerlere aşağıdakilerden hangisi getirilemez?**

- A) nefes
- B) koşuk
- C) tapuğ
- D) âyin

9. **Aşağıdaki sanatçılardan hangisi eserlerinde tasavvuf konusunu ele almamıştır?**

- A) Ahmedî
- B) Mevlâna
- C) Yunus Emre
- D) Hacı Bektaşî Veli

## 1. OTURUM

10. Yiğitler çağırışır yaman gün olur Allah Allah derler yüksek ün olur Çarha çarha doğuşicek hun olur Hasmin arar koçlar meydan içinde **Bu dördlüğün teması aşağıdaki-lerden hangisidir?**

- A) Aşk B) Özlem  
C) Ölüm D) Kahramanlık

11. **Aşağıdakilerden hangisi Dede Korkut Hikâyeleri üzerinde ça-lışmıştır?**

- A) Yahya Kemal Beyatlı  
B) Orhan Veli Kanık  
C) Ömer Seyfettin  
D) Muharrem Ergin

12. Türkülerde her bendin sonunda tekrarlanan bölümlere - - - -; terki-bibentlerde bentleri birbirine bağ-layan beyte ise - - - - adı verilir. **Bu cümlede boş bırakılan yer-lere aşağıdakilerden hangileri sırasıyla getirilmelidir?**

- A) kavuştak – vasıta  
B) bağlama – hamse  
C) vasıta – beytülgazel  
D) matla – nakarat

13. **Aşağıdaki eser-sanatçı eşleştir-melerinden hangisi yanlıştır?**

- A) Garibnâme – Âşık Paşa  
B) Leylâ ve Mecnûn – Fuzuli  
C) Mantıku't Tayr – Nâbi  
D) Çarhnâme – Ahmet Fakih

14. **Aşağıdakilerden hangisi ano-nim halk edebiyatı için söyle-nemez?**

- A) Nazım birimi dördlüktür.  
B) Sözlü olarak yaşayan bir ede-biyattır.  
C) Sade, anlaşılır bir dille oluşturu-lmuştur.  
D) Ürünlerde aruz ölçüsü kullanılmı-ştır.

15. Divan edebiyatında çeşitli devir-lerde yaşayan şairlerin hayat ve eserlerini ele alan kitaplara - - - - adı verilir.

**Bu cümlede boş bırakılan yere aşağıdakilerden hangisi getiril-melidir?**

- A) tezkire B) mektup  
C) rubai D) methiye

16. **XIX. yüzyılda yazıya geçiril-meye başlanan Karagöz'ün bütün oyunlarını "Karagöz" adlı eserinde derleyen sanatçı aşağıdakilerden hangisidir?**

- A) Cevdet Kudret  
B) Orhan Kemal  
C) Peyami Safa  
D) Edip Cansever

17. **Aşağıdakilerin hangisinde dinî-tasavvufi Türk şiirinin nazım şekilleri bir arada verilmiştir?**

- A) ilahi – gazel – kaside – nutuk  
B) devriye – şathiye – nutuk – ilahi  
C) mesnevi – semai – ilahi – ne-fes  
D) şarkı – ilahi – nutuk – varsağı

18. Çoğunlukla üçer ya da dörder di-zeli bentler ve her bendin sonun-da tekrarlanan dizelerden oluşur. 7, 8 veya 11'li hece ölçüsüyle söylenir. Ezgilerine, konularına ve bentlerdeki dize sayılarına göre gruplandırılır.

**Bu parçada tanıtılan tür aşağı-dakilerden hangisidir?**

- A) Şarkı B) Türkü  
C) Ninni D) Destan

19. XVI. yüzyılda yaşayan sanatçı "sultan'üş şuara" (şairler sultanı) olarak anılmıştır. Söz ve anlam oyunlarına önem veren sanatçı aruz ölçüsünü ustaca kullanmış-tır. Özellikle gazel türündeki şiir-leriyle tanınan sanatçının bir de divanı vardır. Ayrıca Kanuni'nin ölümü üzerine yazdığı "Kanuni Mersiyesi" de oldukça ünlüdür. **Bu parçada hakkında bilgi ve-rilen sanatçı aşağıdakilerden hangisidir?**

- A) Fuzuli B) Nedim  
C) Baki D) Nefi

20. **Aşağıdaki nazım biçimlerinden hangisi beyitlerden oluşmak-tadır?**

- A) Tuyuğ B) Rubai  
C) Mesnevi D) Murabba

(627) SEÇ. TÜRK ED. – 7

1. **Aşağıdaki sanatçılardan hangi-si Yedi Meşaleciler topluluğun-da yer almaz?**

- A) Sabri Esat Siyavuşgil  
B) Vasfi Mahir Kocatürk  
C) Kenan Hulusi Koray  
D) Ahmet Kutsi Tecer

2. **Aşağıdakilerin hangisinde bilgi yanlışı vardır?**

- A) Edip Cansever şiirleriyle millî bilinç oluşturmaya çalışmıştır.  
B) Sezai Karakoç Türk-İslam mistisizmini ifade eden şiirler yazmıştır.  
C) Asaf Hallet Çelebi şiirlerinde Doğu mistisizmi ile tasavvufu birleştirmiştir.  
D) Behçet Necatigil şiirlerinde bü-yük şehrin insanlar üzerindeki olumsuzluklarını ele almıştır.

3. İbrahim Şinasi ve Ağâh Efendi'nin 1860'ta birlikte çıkardıkları

I  
"Tercüman-ı Hakikat" adlı gazetede

II  
ilk makale Şinasi tarafından

III  
yazılmıştır. Namık Kemal yazıla-rında "vatan, millet ve özgürlük"

IV  
gibi konuları işlemiştir.

**Bu parçada numaralanmış yer-lerin hangisinde bilgi yanlışı söz konusudur?**

- A) I. B) II. C) III. D) IV.

4. Anılarını kaleme alanlar kendi yaşam öykülerini de ayrıntılı bir şekilde incelerler. Bu bakımdan anı türü ile - - - - zaman zaman örtüşür. Ancak anı türünde hayat hikâyesi bir araç durumundayken bu türde ise amaçtır. Anıda amaç, yaşananlardan yola çıkarak dönemi ve çevredekileri anlatmaktır.

**Bu parçada boş bırakılan yere aşağıdakilerden hangisi getiril-melidir?**

- A) fıkra B) mektup  
C) otobiyografi D) gezi yazısı

## 1. OTURUM

5. Aşağıdaki eser-tür eşleştirmelerinden hangisi yanlıştır?

- A) Anamın Kitabı – anı
- B) Kuyucaklı Yusuf – deneme
- C) Anadolu Notları – gezi yazısı
- D) Tercüman-ı Ahval Mukaddimesi – makale

6. Ünlü denizcilerimizden - - - - Hindistan, Afganistan, Buhara ve Maveraünnehir'i dolaşmış ve Türkçe ilk gezi kitabını yazmıştır. Ünlü bilgin - - - - ise Cihannüma adlı eserinde Osmanlı ülkesinde gezip gördüğü yerleri anlatmıştır. **Bu parçada boş bırakılan yerlere aşağıdakilerden hangileri sırasıyla getirilmelidir?**

- A) Seydi Ali Reis – Kâtip Çelebi
- B) Koçi Bey – Mercimek Ahmet
- C) Piri Reis – Seydi Ali Reis
- D) Evliya Çelebi – Yirmi Sekiz Çelebi Mehmet

7. Aşağıdakilerden hangisi günümüz denemecilerinden biri değildir?

- A) Vedat Günyol
- B) Ahmet Haşim
- C) Enis Batur
- D) Nermi Uygur

8. Makale bütün dünyada - - - - ile birlikte doğmuş, gelişmiş bir yazı türüdür.

**Bu cümlede boş bırakılan yere aşağıdakilerden hangisi getirilmelidir?**

- A) radyo
- B) televizyon
- C) gazete
- D) İnternet

9. Aşağıdakilerden hangisi yurt dışı gezi yazılarına örnektir?

- A) Reşat Nuri Güntekin – Anadolu Notları
- B) Fikret Otyam – Gide Gide
- C) Yaşar Kemal – Bu Diyar Baştan Başa
- D) Nadir Paksoy – Bir Demet Pasifik

10. Edebiyatımızda anı türünün ilk önemli eseri aşağıdakilerden hangisidir?

- A) Ali Şir Nevai – Mecalis'ün Nefais
- B) Babür Şah – Babürname
- C) Kâtip Çelebi – Fezleke
- D) Evliya Çelebi – Seyahatname

11. Aşağıdaki dizelerden hangisi Cumhuriyet Dönemi'nde yazılmış olamaz?

- A) Kim bilir neredesiniz,  
Geçen dakikalarım  
Kim bilir neredesiniz
- B) Ayrılığın yırtıcı hislerini besteler  
Sonu gelmez yollarda kağnı gıcırtiları
- C) Memleket isterim  
Gök mavi, dere yeşil, tarla sarı olsun  
Kuşların, çiçeklerin diyarı olsun
- D) Bende yok sabr ü sükûn sende vefâdan zerre  
İki yokdan ne çıkar fikredelim bir kerre

12. 2006 yılında Nobel Edebiyat Ödülü alan sanatçımız aşağıdakilerden hangisidir?

- A) Elif Şafak
- B) Adalet Ağaoğlu
- C) Orhan Pamuk
- D) Yaşar Kemal

13. Aşağıdakilerin hangisinde bilgi yanlışı vardır?

- A) Yakup Kadri Karaosmanoğlu, Tanzimat'tan Cumhuriyet'e Türk toplumunun geçirdiği tarihsel aşamaları konu edinir.
- B) Halide Edip Adıvar, bireysel duyguları yansıtan romanlarının yanı sıra toplumsal konulara da yönelir.
- C) Reşat Nuri Güntekin, duygusal bir gerçeklikle Anadolu'ya, Anadolu insanının dünyasına eğilir.
- D) Peyami Safa, toplum sorunlarını ele aldığı eserlerinde ruhsal tasvirlerle girişmeden gerçekçi bir bakış açısıyla sorunlara çözüm arar.

14. Aşağıdakilerden hangisi Cumhuriyet Dönemi'nin tiyatro yazarlarından biridir?

- A) Turan Oflazoğlu
- B) Kemalettin Kamu
- C) Behçet Kemal Çağlar
- D) Ömer Bedrettin Uşaklı

15. Cumhuriyet'in ilk yıllarında tiyatrodaki en verimli isimlerden biridir. Eserlerinde yöneticilerin açgözlülüğünü ironik bir şekilde eleştirir. En önemli tiyatro eserleri şunlardır: İstanbul Efendisi, Aynaroz Kadısı, Bir Kavuk Devrildi... **Bu parçada tanıtılan sanatçı aşağıdakilerden hangisidir?**

- A) Muhsin Ertuğrul
- B) Müsahipzade Celal
- C) Refik Erduran
- D) Sabahattin Kudret Aksal

16. Çocukluğumun en güzel, hiç unutamadığım şeylerinden biriydi mahallemize gelen leblebici. Plastik toplarımız patlayınca atmazdık onları çöpe. Çünkü haftada iki üç kere leblebici amca uğradı sokağımıza. Patlak toplarımızı ona verir, ondan leblebi tozu veya leblebi şekeri alırdık. O yıllar her şeyin hemen tüketilmediği kanaat yıllarıydı.

**Bu parça aşağıdaki metin türlerinin hangisinden alınmıştır?**

- A) Anı
- B) Gezi yazısı
- C) Makale
- D) Fıkra

17. Aşağıdakilerden hangisi Cumhuriyet Dönemi'nde yazdıkları fıkralarla dikkat çeken isimlerden biri değildir?

- A) Yakup Kadri Karaosmanoğlu
- B) Halide Edip Adıvar
- C) Tevfik Fikret
- D) Falih Rıfkı Atay

## 1. OTURUM

18. Aşağıdakilerin hangisinde **de-neme türü ile ilgili bir bilgi yanlış** vardır?

- A) Bu türün öncüsü Fransız yazar Montaigne'dir.
- B) Kanıtlama amacı güdülmeden yazılır.
- C) Bu tür, edebiyatımıza Cumhuriyet'ten sonra girmiştir.
- D) Nurullah Ataç, Ahmet Hamdi Tanpınar, Suut Kemal Yetkin gibi isimler bu türde eser vermişlerdir.

19. Çağdaş Türk edebiyatında öykü ve roman dışındaki düzyazıya dayalı türlerin asıl gelişimi - - - - olmuştur.

**Bu cümlede boş bırakılan yere aşağıdakilerden hangisi getirilmelidir?**

- A) Klasik edebiyattan sonra
- B) Cumhuriyet'ten sonra
- C) Fecriati'den sonra
- D) Servetifünun'dan sonra

20. Yalnız eski şiire değil, toplumcu şiire de tepki olan Garip hareketi - - - -, - - - -, - - - - tarafından geliştirilmiş bir edebî harekettir.

**Bu cümlede boş bırakılan yere aşağıdakilerden hangisi getirilemez?**

- A) Orhan Veli Kanık
- B) Melih Cevdet Anday
- C) Oktay Rifat Horozcu
- D) Orhan Seyfi Orhon

(628) SEÇ. TÜRK ED. – 8

1. Aşağıdakilerden hangisi köyü, köylüyü ve Anadolu'yu anlatan eserlerden biri **değildir**?

- A) Karabibik
- B) Küçük Paşa
- C) Tutunamayanlar
- D) Memleket Hikâyeleri

2. Sanatçı seksen sonrası Türk romancılar arasında anlatım teknikleri ve postmodern yaklaşımlarıyla dikkat çeker. II. Meşrutiyet'ten 12 Mart'a kadar bir zaman dilimi içinde bir ailenin yaşamını anlattığı ilk romanı "Cevdet Bey ve Oğulları"ndan sonra yayımladığı "Yeni Hayat", onun romancılıktaki yolunu da belirler.

**Bu parçada kendisinden bahsedilen sanatçı aşağıdakilerden hangisidir?**

- A) Orhan Pamuk
- B) Peyami Safa
- C) Yaşar Kemal
- D) Ahmet Hamdi Tanpınar

3. Aşağıdaki sanatçılardan hangisi **Yedi Meşale topluluğunun üyelerinden biridir**?

- A) Orhan Veli Kanık
- B) Faruk Nafiz Çamlıbel
- C) Cahit Sıtkı Tarancı
- D) Ziya Osman Saba

4. Cumhuriyet sonrası Türk şiirinde gerçek yenilik - - - - tarafından başlatıldı. Sanatçı; özü, biçimin bağlarından kurtararak serbest şiir olarak nitelenen ve şiirden ölçü, uyak gibi bağları atan bir akımın başlatıcısı oldu.

**Bu parçada boş bırakılan yere aşağıdakilerden hangisi getirilmelidir?**

- A) Turgut Uyar
- B) Mehmet Âkif Ersoy
- C) Nazım Hikmet
- D) Necip Fazıl Kısakürek

5. Aşağıdaki sanatçı – eser eşleştirmelerinden hangisi **yanlıştır**?

- A) Refik Halit Karay – Memleket Hikâyeleri
- B) Yakup Kadri Karaosmanoğlu – Vazgeçemediğim
- C) Reşat Nuri Güntekin – Yeşil Gece
- D) Halide Edip Adıvar – Sinekli Bakkal

6. Aşağıdakilerden hangisi **II. Yeni şiiri için söylenemez**?

- A) İmgeci bir şiirdir.
- B) Toplumcu bir şiir anlayışı hâkimdir.
- C) Bilinçaltına yönelinmiştir.
- D) Nükte ve şaşırtmacadan uzak durulmuştur.

7. İkinci Yeni şiiri aşağıdaki şiir anlayışlarından hangisine tepki olarak doğmuştur?

- A) Öz şiire
- B) Millî Edebiyat zevk ve anlayışını sürdüren şiire
- C) Serbest nazım ve toplumcu şiire
- D) Garip (I. Yeni) şiirine

8. Aşağıdakilerden hangisi **toplumcu şiiri geliştiren sanatçılardan biri değildir**?

- A) Enver Gökçe
- B) Cahit İrgat
- C) Ahmet Muhip Dıranas
- D) Arif Damar

9. Aşağıdakilerden hangisi **Beş Hececiler için doğru bir bilgidir**?

- A) Ölçü ve uyaktan uzak, günlük yaşamı dile getiren şiirler yazdılar.
- B) Halk şiiri geleneğinden yararlanarak yurt güzelliğini dile getiren duygusal şiirler yazdılar.
- C) Sanatlı ve süslü bir söyleyişten yararlanarak bireysel duyguları anlatan şiirler yazdılar.
- D) İmgeli bir anlatıma yönelerek insanın iç dünyasını anlatan şiirler yazdılar.

10. Üç arkadaşın 1930'lu yılların sonuna doğru başlattığı bu hareket Cumhuriyet Dönemi'nin ikinci edebî topluluğunu oluşturmuştur. Bu üç arkadaş gelenekçi şiir anlayışına karşı yazdıklarıyla yenilikçi şiirin egemenliğini ilan etmiştir. Üç genç şairin ilk ürünleri vezinsiz, kafiyesiz, günlük dile dayalı, kısa şiirlerdir. **Bu parçada tanıtılan edebî anlayış aşağıdakilerden hangisidir?**

- A) I. Yeni
- B) II. Yeni
- C) Beş Hececiler
- D) Yedi Meşaleciler

## 1. OTURUM

11. Aşağıdakilerden hangisi 1940 sonrası Türk hikâye ve romanında toplumcu gerçekçi çizgi-  
de eser veren sanatçılardan biri değildir?

- A) İlhan Berk
- B) Kemal Bilbaşar
- C) Samim Kocagöz
- D) Orhan Kemal

12. Türk romanında modern anlatım teknikleri, ruh bilimsel ve bireyin iç dünyasına yönelik konuları ile dikkat çeken yazarlardan biridir. Yazar bu yoldaki önemli eserlerinden biri olan "Aylak Adam"daki başarısını "Anayurt Otelinde" de geliştirerek sürdürür. Mekân olarak Anavatan Otel ve onun kâtibinden esinlenerek yazdığı Anayurt Otelinin kurgusu kahramanın ruh dünyasının açığa çıkarılması üzerine şekillenir.

**Bu parçada kendisinden bahsedilen yazar aşağıdakilerden hangisidir?**

- A) Orhan Pamuk
- B) Oğuz Atay
- C) Bilge Karasu
- D) Yusuf Atılgan

13. Aşağıdakilerden hangisi 1980 sonrası roman yazarları arasında sayılamaz?

- A) Bilge Karasu
- B) Pınar Kür
- C) Refik Halit Karay
- D) Latife Tekin

14. Aşağıdakilerden hangisi Mahmut Makal'ın köy notlarını topladığı romanının adıdır?

- A) Köygöçüren
- B) Bizim Köy
- C) Çıkrıklar Durunca
- D) Hanımın Çiftliği

15. Hava kurşun gibi ağır!  
Bağır

bağır

bağır

bağırıyorum

Koşun

kurşun

erit-

-meğe

çağırıyorum...

**Bu dizelerin şekil ve içerik özellikleri göz önünde bulundurulduğunda aşağıdaki sanatçılardan hangisi tarafından yazıldığı söylenir?**

- A) Faruk Nafiz Çamlıbel
- B) Necip Fazıl Kısakürek
- C) Fazıl Hüsni Dağlarca
- D) Nazım Hikmet

16. Aşağıdakilerden hangisi günümüz hikâye ve romancıları arasında sayılamaz?

- A) Orhan Pamuk
- B) Elif Şafak
- C) Sait Faik Abasıyanık
- D) Murathan Mungan

17. Cumhuriyet Dönemi halk şiiriyle ilgili aşağıdakilerden hangisi söylenemez?

- A) Ağır, sanatlı bir dil ve imgelerle yüklü bir anlatım benimsemiştir.
- B) Aşk, doğa, özlem, ölüm, yiğitlik en çok işlenen konulardandır.
- C) Dörtlükler hâlinde ve hece ölçüsüyle yazılan şiirlerden oluşur.
- D) Geniş halk yığınlarının özlemi-  
ni, acısını, sevincini dile getirir.

18. Belimizde kılıcımız kirmani  
Taşı deler mızrağımın temreni  
Hakkımızda devlet eylemiş fermanı  
Ferman padişahın dağlar bizimdir  
**Bu dörtlük konusuna göre aşağıdaki nazım türlerinin hangisine örnektir?**

- A) Taşlamaya
- B) Koçaklamaya
- C) Güzellemeye
- D) Ağıta

19. Yalnızca şiirin öne çıkarıldığı, aslolan üründür anlayışının egemen olduğu bir dönemdir. Bu dönemde şiirle yeniden yüzleşilir. İnsani duyarlılık ve evrensel deneyimler şiirin gözde değerleri olur. Bu dönem şiiri bir iç hesaplaşmayı beraberinde getirir. Haydar Ergülen, Hüseyin Atlansoy, Enver Ercan gibi şairler bu dönemin önemli isimlerindedir.

**Bu parçada anlatılan edebî dönem aşağıdakilerden hangisidir?**

- A) 1980 Sonrası Şiir
- B) Garip (I. Yeni) Akımı
- C) Millî Edebiyat Zevk ve Anlayışını Sürdüren Şiir
- D) Saf Şiir

20. Aşağıdakilerden hangisi Millî Edebiyat zevk ve anlayışını sürdüren şairlerden biri değildir?

- A) Arif Nihat Asya
- B) Ahmet Kutsi Tecer
- C) Attila İlhan
- D) Kemalettin Kamu

### (711) İSLAM TARİHİ – 1

1. İslam tarihi başlangıçta metot olarak aşağıdakilerden hangisini kullanmıştır?

- A) Öğretici
- B) Rivayetçi
- C) Araştırmacı
- D) Tenkit

2. Aşağıdaki kavramlardan hangisi Kur'an-ı Kerim ile ilgili değildir?

- A) Cüz
- B) Sure
- C) Ayet
- D) Hadis

3. Müslümanlar hicri takvimi, aşağıdaki hangi halife döneminde resmî takvimleri olarak benimsemişlerdir?

- A) Hz. Ali
- B) Hz. Ömer
- C) Hz. Osman
- D) Hz. Ebu Bekir

## 1. OTURUM

4. İslamiyet'ten önce Arabistan'ın güneyinden göç eden Araplar tarafından Kuzey Arabistan'da kurulmuş olan devletler, aşağıdakilerin hangisinde birlikte verilmiştir?

- A) Gassânîler - Hîreliler
- B) Sasaniler - Habeşliler
- C) Mânililer – Seb'eliler
- D) Asurlular - İyonyalılar

5. Aşağıdaki Arap kavimlerinden hangisi "Arab-ı bâide" adı verilen gruptandır?

- A) Adnanîler B) İsmailîler
- C) Medyenler D) Kahtânîler

6. Arapların uğraşı alanlarından biri olan "İtriyatçılık", aşağıdaki üretim dallarından hangisiyle ilgilidir?

- A) Dericilik
- B) Demircilik
- C) Kuyumculuk
- D) Güzel koku üretimi

7. Aşağıdakilerden hangisi vahiy meleğidir?

- A) Azrail B) Cebrail
- C) Mikail D) İsrail

8. Mekkeli Müşriklere göre peygamberlik, aslında aşağıdakilerden hangisine gelmeliydi?

- A) Velit bin Muğire'ye
- B) Zeyd bin Harise'ye
- C) Halit bin Velit'e
- D) Amr bin As'a

9. Hz. Muhammed yaklaşık kaç yıl peygamberlik görevinde bulunmuştur?

- A) 19 B) 21 C) 23 D) 33

10. Kureyşliler, Müslümanların Mekke'yi fethetmek için harekete geçtiğinde Hz. Muhammed'e arabuluculuk yapması için, aşağıdakilerden hangisini görevlendirmişlerdir?

- A) Ebu Talip'i B) Ebu Lehep'i
- C) Ebu Cehil'i D) Ebu Süfyan'ı

11. "Hz. Peygamber'e verdikleri bir oğlağı, hatta bir deve yularını bile bana vermektan kaçınanlarla kim olursa olsunlar mücadele ederim." diyerek zekât vermeyenlere karşı savaşmaktan bile çekinmeyeceğini belirten halife, aşağıdakilerden hangisidir?

- A) Hz. Ebu Bekir
- B) Hz. Ömer
- C) Hz. Osman
- D) Hz. Ali

12. Hz. Ali Dönemi'nin çok karışık iç olaylarla geçmesinde, aşağıdakilerden hangisinin etkisi yoktur?

- A) Emevi sülalesinin Hz. Ali'nin halifeliğini tanımamasının
- B) Hz. Ali'nin, Hz. Osman'ın katillerini bulamamasının
- C) Hz. Ali'ye karşı bir muhalif grubun oluşmasının
- D) Yalancı peygamberlerin ortaya çıkmasının

13. Hz. Peygamberin torunları, aşağıdakilerden hangisinde birlikte verilmiştir?

- A) Hz. Hüseyin – Kuteybe bin Müslim
- B) Hz. Hasan – Hz. Hüseyin
- C) Hz. Ali – Amr bin As
- D) Hz. Hasan – Hz. Ali

14. İslam Devleti'nin başkenti, aşağıdaki hangi halife döneminde Medine'den Kûfe'ye taşınmıştır?

- A) Hz. Ali
- B) I. Velit
- C) Hz. Ebu Bekir
- D) Yezit bin Muaviye

15. Hz. Ali, aşağıdaki hangi savaşta rakiplerini yenmiştir?

- A) Sıffin B) Katvan
- C) Cemel D) Talas

16. Bizans'a bağlı Ermeniye'yi İslam topraklarına katan Emevi halifesi, aşağıdakilerden hangisidir?

- A) III. Yezit bin Velit
- B) Mervan bin Hakem
- C) Hişam bin Abdülmelik
- D) Abdülmelik bin Mervan

17. Arap olmayan Müslümanlar (Mevali), hukuken Müslüman Araplarla, aşağıdaki gelişmelerden hangisiyle eşit hâle gelmiştir?

- A) Abbasi Devleti'nin kurulmasıyla
- B) Emevi Devleti'nin yıkılmasıyla
- C) İslamiyet'i kabul etmekle
- D) İstanbul'un fethiyle

18. Hutbelerde Hz. Ali ve evladına hakaret etme durumuna son veren Emevi halifesi, aşağıdakilerden hangisidir?

- A) Yezit bin I. Velit
- B) Ömer bin Abdülaziz
- C) Süleyman bin Abdülmelik
- D) II. Mervan bin Muhammed

19. İlk İslam fetihlerinin son halkası, aşağıdakilerden hangisidir?

- A) İber Yarımadası'nın fethi
- B) Kuzey Afrika'nın fethi
- C) İstanbul'un fethi
- D) Şam'ın fethi

20. Müslümanlarla İspanyollar arasında 47 maddelik Gırnata'nın Teslim Antlaşması hangi yıl imzalanmıştır?

- A) 1355 B) 1487
- C) 1491 D) 1502

## 1. OTURUM

### (811) KELAM – 1

1. Akıl yolu ve kesin dini deliller kullanılarak, İslam ile ilgili meydana gelebilecek şüpheleri giderip dini akideleri ispat etmeye ve İslam itikadını ortaya koymaya çalışır.

**Hakkında bilgi verilen ilim dalı aşağıdakilerden hangisidir?**

- A) Fıkıh B) Hadis  
C) Kelam D) Felsefe

2. Aşağıdakilerden hangisi kelam âlimlerine göre bilginin kaynaklarından biri değildir?

- A) Akıl B) Vahiy  
C) Duyular D) Tahmin

3. Aşağıdakilerden hangisi kelam ilminin doğuşunu hazırlayan nedenlerden biri değildir?

- A) Kur'an-ı Kerim'in çoğaltılması  
B) İslam'ın insanlara tanıdığı fikir hürriyeti  
C) Müslümanlar arasında ortaya çıkan iç savaşlar  
D) İslam düşüncesinin felsefeyle yakınlık kurması

4. Kelamcılara göre bütün insanlarda ortak olan akli bilgilere "bedîhî bilgiler" denir. Bu tür bilgi duyu veya haberle ya da düşünerek elde edilmeyip, bilinmesi akılla apaçık olarak meydana gelen bilgidir.

**Verilen açıklamaya göre aşağıdakilerden hangisi bedîhî bilgi olamaz?**

- A) Varlık vardır.  
B) Bütün parçasından büyüktür.  
C) Her peygamber Allah'tan vahiy alır.  
D) İki zıttın bir arada bulunması imkânsızdır.

5. Kelam ilminin gelişmesi üç devre halinde olmuştur. Üçüncü devre, mantık ilminin İslami ilimler arasına dâhil edilmesiyle ve Gazali'nin düşünceleriyle şekillenmiştir. Bu devreden sonra gelen kelam âlimlerine - - - - denmiştir.

**Verilen açıklamada boş bırakılan yere aşağıdakilerden hangisi getirilmelidir?**

- A) müfessir B) muhaddis  
C) müteahhirin D) mütekaddimin

6. Kelam ilminde "Allah - âlem" ilişkisi incelenirken "âlem" in tarifi nasıl yapılır?

- A) Tüm canlılar ve yeryüzü  
B) Allah'ın dışındaki her şey  
C) Allah ile beraber bütün evren  
D) Dünyada yaşayan insanların tümü

7. Aşağıdakilerden hangisi bilginin iman üzerindeki etkisini göstermez?

- A) Taklidi imandan tahkiki imana ulaşabilme  
B) Neye, niçin ve neden inandığını öğrenebilme  
C) Batıl inanç ve hurafelerden uzak durabilme  
D) Her söylenilene doğru kabul etme

8. • Allah'ı bilmek aklen vaciptir.

- Hz. Peygamber kimseyi halife tayin etmemiştir.  
• İnsanın fillerini yaratan Allah'tır.  
• Amel imandan bir cüz değildir.

**Bu görüşler aşağıdaki mezheplerden hangisine aittir?**

- A) Maturidiye B) Mutezile  
C) Hariciye D) Şia

9. Kelamcılara göre aşağıdaki bilgilerden hangisi yanlıştır?

- A) Âlemi oluşturan varlıklar "mümkün"dür.  
B) Duyu organlarıyla elde edilen bilgiler insanları asla yanıltmaz.  
C) Salim akıl İslam'a ve insan fıtratına uygundur.  
D) Vahiy bilgi akli bilgiyle çelişmez.

10. Aşağıdakilerden hangisi mezheplerin ortaya çıkışında etkili olan sebeplerden biri olarak görülmür?

- A) Muhkem ayetler  
B) Siyasi hadiseler  
C) Ortam ve kültür  
D) Müteşabih ayetler

11. İslam dini ile ilgili aşağıda verilenlerden hangisi yanlıştır?

- A) Güzel ahlakı öğretir.  
B) Özgürlüğü öne çıkarır.  
C) Zorlamayı kabul etmez.  
D) Dünya hayatını önemsemez.

12. Aşağıdakilerden hangileri "ehlisünnet" mezheplerindedir?

- A) Şia-Havariç  
B) Mutezile-Şia  
C) Mutezile-Mürchie  
D) Maturidiye-Eş'ariye

13. İnsanın bilgi sahibi olmadan, ailesinden, arkadaşlarından veya çevresinden görerek, duyararak ettiği imana ne denir?

- A) Tafsili iman  
B) Taklidi iman  
C) Tahkiki iman  
D) Kamil iman

14. Alevi-Bektaşî düşüncesinde ehlibeyti ve Hz. Ali'yi içten sevmeye, onlardan şefaathet ve merhamet dilemeye - - - -, ehlibeyte düşman olanlardan yüz çevirmeye ve onlara beddua etmeye de - - - - denir.

**Bu metinde boş bırakılan yerlere aşağıdakilerden hangileri getirilmelidir?**

- A) tevella-teberra  
B) on iki imam-dâr cem  
C) şeriat kapısı-kurbancı  
D) musahiplik-ayin-i cem

## 1. OTURUM

15. Aşağıdakilerden hangisi iman esaslarından biri değildir?

- A) Allah'ın varlığına ve birliğine iman
- B) Mehdinin geleceğine iman
- C) Peygamberlere iman
- D) Ahirete iman

16. “Konuştuğunda yalan söyler, emanete ihanet eder, söz verdiği sözünde durmaz.”

**Bu hadiste aşağıdakilerden hangisinin özellikleri verilmiştir?**

- A) Kâfirler
- B) Müşrikler
- C) Münafıklar
- D) Münkirler

17. Aşağıdakilerden hangisi İmam-ı Âzam'ın görüşlerinden biridir?

- A) Amel imandan bir cüzdür.
- B) Amel yoksa iman da yoktur.
- C) Amel imanın bir parçası değildir.
- D) Büyük günah işleyen dinden çıkar.

18. “Âlemden var olan bütün varlıkların bir düzen ve insicam içinde olduğu” görüşünden hareketle Allah'ın varlığına ulaşmayı hedefleyen delil aşağıdakilerden hangisidir?

- A) İmkân delili
- B) Hudus delili
- C) Temanu' delili
- D) Gaye ve nizam delili

19. Allah hiçbir şeye muhtaç olmadan kendi kendine vardır. Allah'ın varlığı kendi zatının gereğidir, var olmasında, kendi dışında bir başka varlığa muhtaç değildir.

**Burada Allah'ın sıfatlarından hangisi hakkında bilgi verilmektedir?**

- A) Bekâ
- B) Kudret
- C) Vahdaniyet
- D) Kıyam binefsihi

20. “İnsanın sağında ve solunda oturan iki melek (onun yaptıklarını) kaydetmektedir.” (Kâf suresi, 17. ayet)

**Bu ayette belirtilen görevli melekler aşağıdakilerden hangileridir?**

- A) Münker-Nekir
- B) Kirâmen kâtibin
- C) Hameli-i arş
- D) Hafaza

### (931) SİYER – 1

1. Aşağıdakilerden hangisi Cahiliye dönemi Arap toplumunda görülen inanç biçimlerinden biri değildir?

- A) Mecusilik
- B) Yahudilik
- C) Hinduizm
- D) Hristiyanlık

2. Aşağıdakilerden hangisi Kur'an-ı Kerim'de “güvenli şehir ve şehirlerin anası” olarak anılmaktadır?

- A) Medine
- B) Taif
- C) Kudüs
- D) Mekke

3. Ebu Talib'in Hz. Peygamber'e her türlü desteği vermesine rağmen İslam'ı kabul etmemesinde aşağıdakilerden hangisi etkili olmuştur?

- A) Atalarının dinine saygısızlık yapmak istememesi
- B) Kendisini Hz. Muhammed (sav.)'den üstün görmesi
- C) Yeğeni Hz. Muhammed(sav.)'e olan güvensizliği
- D) Mekke'nin ileri gelenlerinden biri olması

4. Aşağıdakilerden hangisi Mekke Şehir Meclisi'nin toplantı yeridir?

- A) Kâbe
- B) Darunnedve
- C) Darulerkam
- D) Beyt'ül-hikme

5. Arap toplumundaki sosyal sınıflardan biri olan “Mevâli”ler ile ilgili verilen bilgilerden hangisi yanlıştır?

- A) Köleler ile hürler arasındaki bir sınıftı.
- B) Kendisini azat eden kabilenin bir üyesi sayılırdı.
- C) Evlenme ve mirasta hürler ile eşit haklara sahipti.
- D) Öldürüldüğünde diyeti hürün diyetinin yarısı olarak alınırdı.

6. Aşağıdakilerden hangisi Kâbe'nin isimlerinden biri değildir?

- A) Beytül-Ma'mur
- B) Beytül-Atik
- C) Beytül-Haram
- D) Beytül-Makdis

7. Aşağıda Hanifler ile ilgili verilen bilgilerden hangisi doğrudur?

- A) Hristiyanlık dini üzerine yaşıyorlardı.
- B) Putlar adına kesilen kurbanların etlerinden yerlerdi.
- C) Cahiliye inanç ve adetlerine karşı sempati duyuyorlardı.
- D) Hz. İbrahim'in tebliğ ettiği tevhit inancını benimsiyorlardı.

8. “Şüphesiz, insanlar için ilk kurulan ibadet evi, elbette Mekke'de, âlemlere rahmet ve hidayet kaynağı olarak kurulan Kâbe'dir.” (Âl-i İmran suresi, 96. ayet)

**Bu ayette Kâbe ile ilgili aşağıdakilerden hangisine değinilmemiştir?**

- A) İlk Mabet olduğuna
- B) Mekke'de bulunduğu
- C) Kimin tarafından inşa edildiğine
- D) Rahmet ve hidayet kaynağı olduğuna

9. Hz. Peygamber'in, hakkında sure indirilen amcası kimdir?

- A) Ebu Talip
- B) Ebu Leheb
- C) Haris
- D) Zübeyr

10. Hz. Peygamber'in sütannesi aşağıdakilerden hangisidir?

- A) Hz. Halime
- B) Hz. Şeyma
- C) Hz. Safiye
- D) Hz. Asiye



## 1. OTURUM

11. Hz. Peygamber maddi durumu iyileştiğinde amcası Ebu Talib'in yükünü hafifletmek amacı ile Hz. Ali'yi yanına almış ve bakımını üstlenmiştir.

**Hz. Peygamber'in bu şekilde davranması onun hangi özelliğinden kaynaklanmaktadır?**

- A) Adaleti B) Ümmiliği  
C) Vefakârlığı D) Güvenilirliği

12. Hz. Muhammed (sav.)'in çocuklarından hangisi kendisinden sonra vefat etmiştir?

- A) Abdullah B) Fatıma  
C) Zeynep D) Kasım

13. Aşağıdakilerden hangisi müşriklerin, davasını bırakması karşılığında Hz. Peygamber'e yaptıkları tekliflerden biri değildir?

- A) Kâbe'yi bütün putlardan temizlemek  
B) Kendisine Mekke'nin liderliğini vermek  
C) İstedığı kadınla evlenmesini sağlamak  
D) Kendisine maddi imkânlar sunmak

14. Aşağıdakilerden hangisi Habeşistan'ın hicret yeri olarak seçilmesinin nedenleri arasında gösterilmektedir?

- A) Halkının refah içinde bir hayat sürüyor olması  
B) Habeşistan ile Mekke ikliminin benzer olması  
C) Düşman saldırılarına karşı korunaklı olması  
D) Hükümdarının adaletli olması

15. • Darü'l-Erkam'da Müslüman olmuştur.  
• Hz. Peygamber, Müslüman olması için dua etmiştir.  
• İslam'ı kabul etmesiyle Müslümanlar açıktan ibadet etmeye başlamıştır.

**Hakkında bilgi verilen kişi aşağıdakilerden hangisidir?**

- A) Hz. Ömer B) Hz. Hamza  
C) Hz. Osman D) Hz. Ebubekir

16. Aşağıdakilerden hangisi Mekkeli müşriklerin Müslümanlara uyguladıkları boykotun asıl amaçlarından biridir?

- A) Haşimoğullarının itibarını düşürmek  
B) İslam'ın Mekke'de yayılmasını engellemek  
C) Müslümanların ekonomik gücünü zayıflatmak  
D) Müslümanları Medine'ye göç etmeye zorlamak

17. Hz. Peygamber İslam'ı tebliğ etmek için Taif'e kiminle gitmiştir?

- A) Hz. Ömer  
B) Hz. Ebubekir  
C) Hz. Mus'ab b. Umeyr  
D) Hz. Zeyd b. Harise

18. "Kendisine ayetlerimizden bir kısmını gösterelim diye kulunu (Muhammed'i) bir gece Mescid-i Haram'dan çevresini bereketlendirdiğimiz Mescid-i Aksa'ya götürülen Allah'ın şanı yücedir. Hiç şüphesiz O, hakkıyla işitendir, hakkıyla görendir." **ayetinde bahsedilen olay aşağıdakilerden hangisidir?**

- A) Veda haccı B) Hicret  
C) İsrâ D) Mekke'nin fethi

19. Aşağıdakilerden hangisi Miraç gecesinde müjdelenenlerden biri değildir?

- A) Beş vakit namazın farz kılınması  
B) Kiblenin Mescid-i Haram olarak belirlenmesi  
C) Bakara suresinin son iki ayetinin vahyedilmesi  
D) Şirk koşmamak şartı ile Müslümanların cennete gireceği

20. Aşağıdaki bilgilerden hangisi yanlıştır?

- A) Medine'ye hicret 630 yılında gerçekleşmiştir.  
B) Kûba Mescidi İslam'ın ilk mescidi olarak kabul edilir.  
C) Medine'ye hicret II. Akabe Biati'ndan sonra gerçekleşmiştir.  
D) Hz. Peygamber ilk cuma namazını Ranuna vadisinde kılmıştır.

## (974) GİRİŞİMCİLİK – 1

1. Müteşebbis ile ilgili olarak aşağıda verilen bilgilerden hangisi yanlıştır?

- A) Kâr amacı güder.  
B) Örgütsel birimler oluşturur.  
C) Mal ve hizmet üretimi yapar.  
D) Doğabilecek risklerden uzak durur.

2. Yokluk hissiyle belirip karşılanma isteği uyandıran, karşılanmadığında sıkıntı veren, karşılandığında tatmin hissi veren ekonomik ve biyolojik olayın karşılığı aşağıdakilerden hangisidir?

- A) İhtiyaç B) Tüketim  
C) Üretim D) Emek

3. Aşağıdakilerden hangisi işletmenin özel amaçlarındandır?

- A) Kâr sağlamak  
B) Topluma hizmet etmek  
C) İşletmenin yaşamını devam ettirmek  
D) Mal ve hizmetlerin kalitesini sürekli arttırmak

4. İhtiyaçlar hiyerarşisine göre insanın fizyolojik ihtiyaçlarından sonra ortaya çıkan ihtiyacı aşağıdakilerden hangisidir?

- A) Güvenlik ihtiyacı  
B) Başarma ihtiyacı  
C) Saygı ihtiyacı  
D) Sevgi ve ait olma ihtiyacı

5. Bir işletmenin kuruluş sürecinde, projenin niteliğine göre kuruluş ve konum yeri durumu, fabrika binası, üretim teçhizatı, güvenlik araştırması, doğal afet ve çevre kirliliği gibi konularda yapılan araştırma türü aşağıdakilerden hangisidir?

- A) Ekonomik araştırma  
B) Teknik araştırma  
C) Yasal araştırma  
D) Mali araştırma

## 1. OTURUM

6. Yapılan ekonomik, teknik ve mali arařtırmalar kapsamlı bir şekilde gözden geçirildikten sonra, iřletmenin yasal biçimi, teknik nitelikleri, kapasitesi, ürün ve miktarları ile ilgili kesin planların yapılması iřletme kurma sürecinin hangi aşamasını gösterir?

- A) Yatırım kararı verme
- B) Yatırım projesi
- C) Deneme üretimi
- D) Ön proje

7. Ařağıdakilerden hangisi müteşebbisliğin en önemli özelliklerinden birisidir?

- A) İř bitiricilik
- B) Kararlılık
- C) Uyumluluk
- D) İnişiyatif kullanma

8. Ařağıdakilerden hangisi talebin özelliklerinden biri değildir?

- A) Piyasanın olması
- B) Satın alma gücü
- C) Satın alma isteğinin var olması
- D) Geniş bir zaman dönemini kapsaması

9. Üretim sırasında doğrudan kullanılmayan mallara " - - - " denir.

Boş bırakılan yere ařağıdakilerden hangisi yazılmalıdır?

- A) yardımcı araçlar
- B) iřletme gereçleri
- C) yatırım donatım malları
- D) üretim gereçleri ve parçaları

10. Üretici ya da satıcıların belli bir zaman aralığında ve bir fiyat karşılığı piyasaya sürdükleri mal ve hizmet miktarına ne ad verilir?

- A) Arz
- B) Talep
- C) Emek
- D) Fayda

11. Üretim yönetimi dönüşüm sürecinde ařağıdakilerden hangisi çıktı olarak kabul edilir?

- A) Emek
- B) Sermaye
- C) Girişimci
- D) Hizmetler

12. Ařağıdakilerden hangisi müteşebbislerin teminat altına alınmış haklarından biri değildir?

- A) İsteddiği kârı elde etme hakkı
- B) Sözleşme yapma hakkı
- C) Meslek seçme hakkı
- D) Mülkiyet hakkı

13. Ařağıdakilerden hangisi planlamada uyulacak kural olarak görülmez?

- A) Uygun bir süreyi kapsmalıdır.
- B) Kesin uygulanabilir olmalıdır.
- C) Basit ve anlaşılır olmalıdır.
- D) Dengeli olmalıdır.

14. Ařağıdakilerden hangisi etkili denetimin ilkelerine aykırı bir açıklamadır?

- A) Denetleme esnek olmalıdır.
- B) Denetleme gizli olmalıdır.
- C) Denetleme şekli iřletmeye uygun olmalıdır.
- D) Denetlenme standartları önceden belirlenmelidir.

15. Ařağıdakilerden hangisi bir iřletmenin şirket olma şartlarına uygun değildir?

- A) Ortak bir amaç olmalıdır.
- B) Ortaklar arası bir anlaşma olmalıdır.
- C) Şirket kuranların sayısı en az bir olmalıdır.
- D) Ortak üretim elemanlarına sahip olmalıdır.

16. Ařağıdakilerden hangisi İktisadi Devlet Teşekkülü değildir?

- A) Boru Hatları ile Petrol Taşıma AŞ
- B) Türkiye Kömür İřletmeleri
- C) Devlet Malzeme Ofisi
- D) Türkiye Cumhuriyeti Devlet Demiryolları

17. Limitet şirketler en az kaç ortak tarafından kurulabilir?

- A) 2
- B) 4
- C) 6
- D) 10

18. Bir iřletmenin diğeri iřletmeye ait hisse senetlerini satın alarak o iřletmenin hukuki varlığına son vermesiyle sağladığı tam birleşmeye ne ad verilir?

- A) Füzyon
- B) Konsernler
- C) Kornerler
- D) Merger

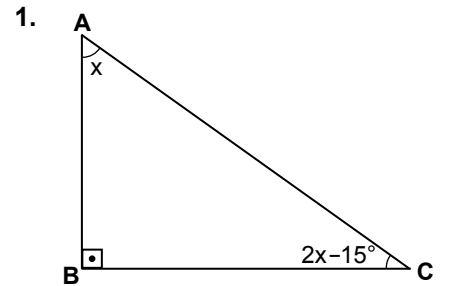
19. Seçici talebi yaratmaya yönelik bir reklam, ařağıda verilen reklam çeşitlerinden hangisi açısından değerlendirilmelidir?

- A) Reklam içeriği açısından
- B) Hedef kitle açısından
- C) Amaçlar açısından
- D) Yapanlar açısından

20. Satış sürecinin aşamalarıyla ilgili olarak ařağıda verilenlerden hangisi yanlıştır?

- A) Satışın gerçekleştirilmesi
- B) İlginin isteğe dönüşmesi
- C) İsteğin arza dönüşmesi
- D) Dikkat çekme

### (999) MATEMATİK – 2

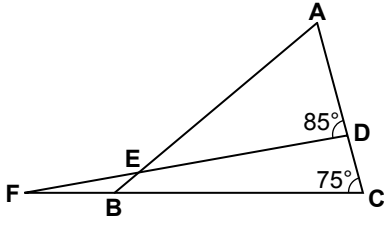


Şekildeki ABC üçgeninde  $m(\widehat{BAC}) = x$ ,  $m(\widehat{BCA}) = 2x - 15^\circ$  ve  $[AB] \perp [BC]$  olduğuna göre  $x$  kaç derecedir?

- A) 25
- B) 35
- C) 45
- D) 55

## 1. OTURUM

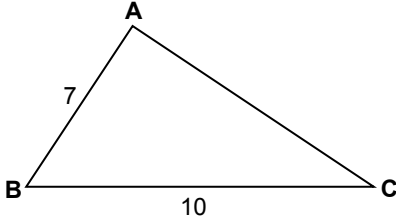
2.



Şekildeki ABC ve DFC üçgenlerinde  $m(\widehat{ACB}) = 75^\circ$  ve  $m(\widehat{ADF}) = 85^\circ$  olduğuna göre  $m(\widehat{CFD})$  kaç derecedir?

- A) 25 B) 20 C) 15 D) 10

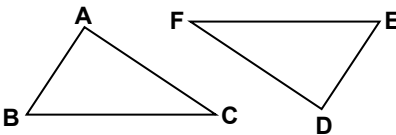
3.



Şekildeki ABC üçgeninde  $|AB| = 7$  cm,  $|BC| = 10$  cm olduğuna göre  $|AC|$ 'nin alabileceği en küçük tam sayı değeri kaç santimetredir?

- A) 2 B) 3 C) 4 D) 5

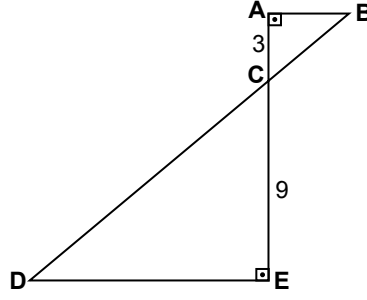
4.



Şekilde  $\widehat{ABC} \cong \widehat{DEF}$ 'tir.  $|AC| = (3x - 2)$  cm ve  $|DF| = (2x + 1)$  cm olduğuna göre  $|DF|$  kaç santimetredir?

- A) 7 B) 6 C) 5 D) 4

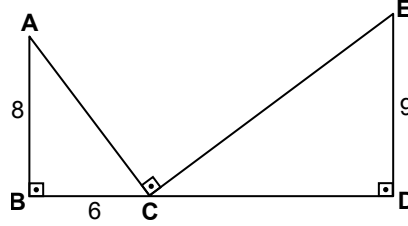
5.



Şekildeki ABC ve CDE üçgenlerinde  $[BA] \perp [AE]$  ve  $[AE] \perp [ED]$ 'tir.  $|AC| = 3$  cm ve  $|CE| = 9$  cm olduğuna göre  $\frac{|AB|}{|DE|}$  kaçtır?

- A)  $\frac{1}{9}$  B)  $\frac{1}{5}$  C)  $\frac{1}{4}$  D)  $\frac{1}{3}$

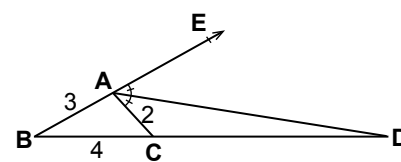
6.



Şekilde  $[AB] \perp [BD]$ ,  $[CD] \perp [DE]$  ve  $[AC] \perp [CE]$ 'tir.  $|AB| = 8$  cm,  $|BC| = 6$  cm ve  $|DE| = 9$  cm olduğuna göre  $|CD|$  kaç santimetredir?

- A) 12 B) 16 C) 18 D) 20

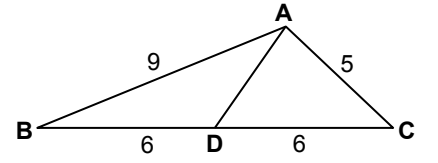
7.



Şekildeki ABC üçgeninde  $m(\widehat{EAD}) = m(\widehat{DAC})$ ,  $|AB| = 3$  cm,  $|AC| = 2$  cm ve  $|BC| = 4$  cm olduğuna göre  $|CD|$  kaç santimetredir?

- A) 5 B) 7 C) 8 D) 10

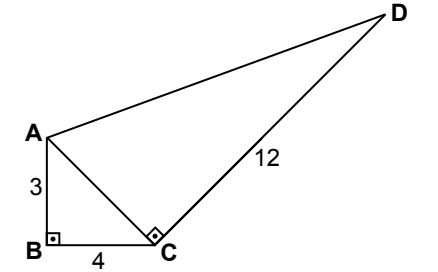
8.



Şekildeki ABC üçgeninde  $|AB| = 9$  cm,  $|AC| = 5$  cm ve  $|BD| = |DC| = 6$  cm olduğuna göre  $|AD|$  kaç santimetredir?

- A)  $\sqrt{11}$  B)  $\sqrt{17}$   
C)  $2\sqrt{17}$  D)  $\sqrt{29}$

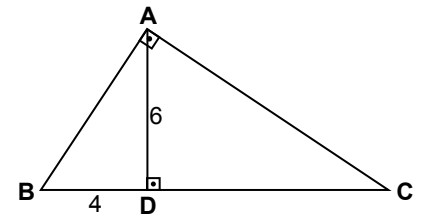
9.



Şekilde  $[AB] \perp [BC]$  ve  $[AC] \perp [CD]$ 'tir.  $|AB| = 3$  cm,  $|BC| = 4$  cm ve  $|CD| = 12$  cm olduğuna göre  $|AD|$  kaç santimetredir?

- A) 13 B) 12 C) 11 D) 10

10.

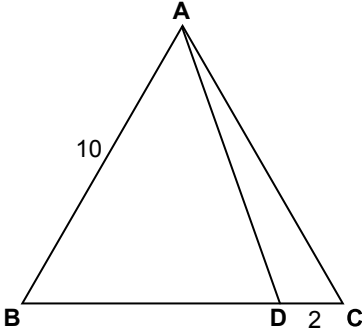


Şekildeki ABC üçgeninde,  $[AB] \perp [AC]$  ve  $[AD] \perp [BC]$ 'tir.  $|AD| = 6$  cm ve  $|BD| = 4$  cm olduğuna göre  $|AC|$  kaç santimetredir?

- A)  $3\sqrt{13}$  B) 9  
C)  $9\sqrt{2}$  D)  $13\sqrt{3}$

## 1. OTURUM

11.



Şekildeki ABC eşkenar üçgeninde,  $|AB| = 10$  cm ve  $|DC| = 2$  cm olduğuna göre  $|AD|$  kaç santimetredir?

- A)  $\sqrt{21}$       B)  $5\sqrt{2}$   
C)  $2\sqrt{21}$       D)  $3\sqrt{10}$

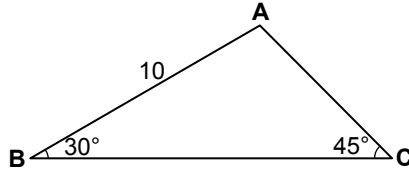
12.  $\sin 200^\circ$ ,  $\cos 150^\circ$ ,  $\tan 250^\circ$  ve  $\cot 340^\circ$  değerlerinin işaretleri sırasıyla aşağıdakilerden hangisinde verilmiştir?

- A)  $-, -, +, +$       B)  $-, +, +, -$   
C)  $-, +, -, +$       D)  $-, -, +, -$

13.  $\cos 180^\circ + \tan 45^\circ - \sin 150^\circ$  işleminin sonucu kaçtır?

- A)  $-\frac{5}{2}$       B)  $-\frac{3}{2}$   
C)  $-\frac{1}{2}$       D) 0

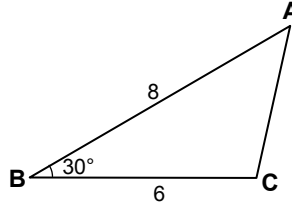
14.



Şekildeki ABC üçgeninde  $m(\widehat{ABC}) = 30^\circ$ ,  $m(\widehat{BCA}) = 45^\circ$  ve  $|AB| = 10$  cm olduğuna göre  $|BC|$  kaç santimetredir?

- A)  $5\sqrt{3} + 5$       B)  $5\sqrt{2} + 5$   
C)  $5\sqrt{3}$       D)  $5\sqrt{2}$

15.



Şekildeki ABC üçgeninde,  $m(\widehat{ABC}) = 30^\circ$ ,  $|BA| = 8$  cm ve  $|BC| = 6$  cm olduğuna göre  $A(\widehat{ABC})$  kaç santimetrekaredir?

- A) 10      B) 12  
C)  $10\sqrt{2}$       D)  $9\sqrt{3}$

16. A, B, C, D, E noktaları aynı düzlemde bulunan farklı noktalardır. Buna göre  $\vec{AB} + \vec{BC} + \vec{CD} + \vec{EA}$  aşağıdaki vektörlerden hangisine eşittir?

- A)  $\vec{BC}$       B)  $\vec{AE}$       C)  $\vec{AC}$       D)  $\vec{ED}$

17. A(3) ve B(9 - x) noktaları veriliyor.  $|\vec{AB}| = 20$  birim olduğuna göre x aşağıdakilerden hangisi olabilir?

- A) -9      B) -12  
C) -14      D) -16

18. 6, 2, 3, 5, 1, 4, 2, 6, 8, 5 veri grubunun ortanca değeri kaçtır?

- A) 4      B) 4,5      C) 5      D) 5,5

19. 6, 8, 10, 12, 14 veri grubunun aritmetik ortalaması kaçtır?

- A) 10      B) 9      C) 8      D) 6

20. Bir kutuda bulunan aynı özellikteki 15 lambanın 2 tanesi bozuktur. Bu kutudan rastgele çekilen bir lambanın sağlam olma olasılığı kaçtır?

- A)  $\frac{2}{15}$       B)  $\frac{6}{15}$   
C)  $\frac{11}{15}$       D)  $\frac{13}{15}$

TEST BİTTİ.  
CEVAPLARINIZI KONTROL EDİNİZ.







### SINAV SÜRESİNCE UYULACAK KURALLAR

1. Adaylar, sınav kurallarına ve salon görevlilerinin tüm uyarılarına uymak zorundadırlar. Kurallara ve uyarılara uymayan adayların sınavları geçersiz sayılacaktır.
2. Sınav başladıktan sonra adayların salon görevlileri ve birbirleri ile konuşmaları, kalem, silgi vb. şeyleri istemeleri yasaktır.
3. Adaylar sınav süresince, sınav giriş belgesi ile birlikte kimlik belgelerinden birini (nüfus cüzdanı, pasaport veya sürücü belgesi) masalarının üzerinde bulundurmamak zorundadırlar.

### SALON GÖREVLİLERİNCE SINAV BAŞLAMADAN ÖNCE ADAYLARA YAPILACAK SON UYARI

- Soracağınız bir şey var mı? Varsa şimdi sorunuz.
- Sınav başladıktan sonra sorularınıza cevap verilmeyecektir.
- Başlama zilini bekleyiniz.
- Hepinize başarılar dileriz.

(Salon başkanı başlama ve bitiş saatini tahtaya yazacaktır.)

Bu kitapçığın her hakkı saklıdır. Hangi amaçla olursa olsun, kitapçığın tamamının veya bir kısmının Millî Eğitim Bakanlığı Ölçme, Değerlendirme ve Sınav Hizmetleri Genel Müdürlüğünün yazılı izni olmadan kopya edilmesi, fotoğraflarının çekilmesi, bilgisayar ortamına alınması, herhangi bir yolla çoğaltılması, yayımlanması veya başka bir amaçla kullanılması yasaktır. Bu yasağa uymayanlar, doğabilecek cezai sorumluluğu ve kitapçığın hazırlanmasındaki mali külfeti peşinen kabullenmiş sayılır.



11 HAZİRAN 2016 TARİHİNDE YAPILAN AÇIKÖĞRETİM LİSESİ / MESLEKİ AÇIKÖĞRETİM LİSESİ  
2015-2016 ÖĞRETİM YILI 3. DÖNEM SINAVI 1. OTURUM T KİTAPÇIĞI CEVAP ANAHTARI

(111) DİN KÜL. AHL. BİL. – 1

1. D
2. B
3. A
4. B
5. A
6. C
7. D
8. C
9. A
10. C
11. B
12. C
13. D
14. A
15. B
16. D
17. D
18. B
19. A
20. B

(115) DİN KÜL. AHL. BİL. – 5

1. B
2. D
3. A
4. A
5. B
6. C
7. D
8. A
9. A
10. B
11. B
12. C
13. D
14. D
15. C
16. A
17. D
18. A
19. B
20. C

(123) SEÇMELİ FELSEFE – 1

1. D
2. A
3. B
4. B
5. D
6. B
7. C
8. D
9. B
10. B
11. A
12. A
13. B
14. D
15. D
16. C
17. A
18. C
19. C
20. A

(136) TARİH – 6

1. B
2. D
3. C
4. A
5. B
6. C
7. B
8. D
9. A
10. B
11. C
12. A
13. D
14. B
15. C
16. C
17. D
18. B
19. A
20. C

(112) DİN KÜL. AHL. BİL. – 2

1. A
2. B
3. D
4. D
5. A
6. C
7. A
8. B
9. D
10. C
11. A
12. D
13. B
14. C
15. B
16. C
17. D
18. C
19. A
20. B

(121) FELSEFE – 1

1. B
2. A
3. D
4. C
5. A
6. D
7. A
8. C
9. A
10. A
11. C
12. B
13. C
14. D
15. C
16. D
17. B
18. D
19. B
20. A

(132) TARİH – 2

1. D
2. C
3. A
4. C
5. C
6. B
7. B
8. D
9. D
10. B
11. B
12. A
13. D
14. C
15. C
16. B
17. C
18. A
19. C
20. D

(151) COĞRAFYA – 1

1. D
2. B
3. C
4. İPTAL
5. D
6. C
7. D
8. A
9. B
10. D
11. A
12. A
13. C
14. C
15. B
16. B
17. A
18. C
19. D
20. B

11 HAZİRAN 2016 TARİHİNDE YAPILAN AÇIKÖĞRETİM LİSESİ / MESLEKİ AÇIKÖĞRETİM LİSESİ  
2015-2016 ÖĞRETİM YILI 3. DÖNEM SINAVI 1. OTURUM T KİTAPÇIĞI CEVAP ANAHTARI

(155) COĞRAFYA – 5

1. C
2. A
3. D
4. A
5. B
6. A
7. B
8. B
9. A
10. D
11. C
12. B
13. B
14. A
15. D
16. D
17. C
18. C
19. D
20. B

(181) İNGİLİZCE – 1

1. B
2. A
3. A
4. D
5. A
6. B
7. D
8. C
9. D
10. B
11. C
12. B
13. D
14. B
15. C
16. A
17. D
18. C
19. A
20. B

(181) FRANSIZCA – 1

1. B
2. C
3. D
4. A
5. C
6. A
7. B
8. D
9. D
10. B
11. C
12. A
13. B
14. D
15. A
16. C
17. A
18. C
19. D
20. B

(244) ALMANCA – 5

1. C
2. A
3. A
4. D
5. C
6. B
7. B
8. C
9. D
10. B
11. C
12. A
13. D
14. A
15. B
16. A
17. B
18. C
19. D
20. D

(157) COĞRAFYA – 7

1. D
2. A
3. B
4. D
5. A
6. D
7. B
8. B
9. C
10. A
11. A
12. C
13. C
14. D
15. C
16. C
17. D
18. A
19. B
20. A

(181) ALMANCA – 1

1. B
2. A
3. C
4. D
5. A
6. C
7. D
8. C
9. B
10. D
11. A
12. C
13. D
14. B
15. C
16. C
17. A
18. D
19. A
20. B

(244) İNGİLİZCE – 5

1. C
2. A
3. B
4. C
5. A
6. D
7. D
8. B
9. A
10. C
11. B
12. C
13. B
14. A
15. D
16. B
17. C
18. B
19. A
20. D

(244) FRANSIZCA – 5

1. D
2. B
3. A
4. C
5. D
6. C
7. A
8. B
9. C
10. B
11. D
12. A
13. A
14. B
15. D
16. C
17. A
18. D
19. D
20. C

11 HAZİRAN 2016 TARİHİNDE YAPILAN AÇIKÖĞRETİM LİSESİ / MESLEKİ AÇIKÖĞRETİM LİSESİ  
2015-2016 ÖĞRETİM YILI 3. DÖNEM SINAVI 1. OTURUM T KİTAPÇIĞI CEVAP ANAHTARI

(401) DİL ve ANLATIM – 1

1. B
2. C
3. D
4. A
5. B
6. D
7. C
8. A
9. B
10. A
11. D
12. A
13. C
14. B
15. A
16. C
17. C
18. B
19. D
20. D

(407) DİL ve ANLATIM – 7

1. A
2. D
3. B
4. B
5. A
6. C
7. B
8. C
9. D
10. B
11. C
12. A
13. A
14. D
15. C
16. B
17. B
18. C
19. C
20. D

(414) TÜRK EDEBİYATI – 4

1. C
2. B
3. D
4. C
5. B
6. A
7. C
8. C
9. D
10. B
11. A
12. B
13. D
14. C
15. D
16. A
17. D
18. C
19. B
20. D

(418) TÜRK EDEBİYATI – 8

1. A
2. C
3. D
4. B
5. A
6. D
7. B
8. C
9. A
10. C
11. D
12. B
13. A
14. C
15. D
16. A
17. D
18. C
19. B
20. C

(402) DİL ve ANLATIM – 2

1. C
2. A
3. D
4. C
5. B
6. D
7. B
8. C
9. A
10. B
11. B
12. D
13. C
14. A
15. D
16. A
17. C
18. B
19. D
20. B

(408) DİL ve ANLATIM – 8

1. C
2. A
3. D
4. B
5. B
6. C
7. D
8. C
9. B
10. C
11. D
12. B
13. C
14. C
15. D
16. A
17. B
18. C
19. A
20. A

(417) TÜRK EDEBİYATI – 7

1. B
2. D
3. D
4. C
5. D
6. A
7. A
8. D
9. C
10. B
11. B
12. D
13. D
14. B
15. A
16. C
17. C
18. A
19. C
20. A

(421) FİZİK – 1

1. D
2. D
3. D
4. A
5. B
6. A
7. C
8. B
9. D
10. A
11. C
12. C
13. B
14. B
15. C
16. A
17. B
18. B
19. C
20. B

11 HAZİRAN 2016 TARİHİNDE YAPILAN AÇIKÖĞRETİM LİSESİ / MESLEKİ AÇIKÖĞRETİM LİSESİ  
2015-2016 ÖĞRETİM YILI 3. DÖNEM SINAVI 1. OTURUM T KİTAPÇIĞI CEVAP ANAHTARI

(425) FİZİK – 5

1. A
2. C
3. D
4. D
5. B
6. C
7. B
8. D
9. A
10. C
11. B
12. A
13. B
14. A
15. B
16. C
17. A
18. C
19. C
20. D

(436) KİMYA – 6

1. C
2. B
3. C
4. A
5. D
6. D
7. B
8. B
9. C
10. A
11. C
12. B
13. D
14. C
15. A
16. B
17. C
18. A
19. B
20. A

(443) BİYOLOJİ – 3

1. D
2. A
3. C
4. B
5. D
6. A
7. D
8. C
9. A
10. C
11. B
12. D
13. C
14. A
15. D
16. B
17. B
18. B
19. C
20. D

(461) EKONOMİ. – 1

1. C
2. B
3. C
4. C
5. A
6. A
7. C
8. A
9. D
10. C
11. B
12. B
13. C
14. C
15. D
16. A
17. A
18. C
19. C
20. D

(432) KİMYA – 2

1. C
2. D
3. B
4. A
5. B
6. D
7. A
8. B
9. D
10. D
11. D
12. B
13. C
14. B
15. B
16. C
17. D
18. A
19. A
20. D

(441) BİYOLOJİ – 1

1. D
2. C
3. B
4. D
5. A
6. A
7. B
8. A
9. B
10. D
11. A
12. C
13. B
14. C
15. B
16. A
17. C
18. B
19. D
20. C

(446) BİYOLOJİ – 6

1. D
2. C
3. B
4. B
5. A
6. D
7. B
8. D
9. C
10. B
11. A
12. A
13. D
14. C
15. A
16. B
17. C
18. A
19. D
20. C

(465) TEMEL DİNİ BİL.– 1

1. D
2. C
3. A
4. D
5. A
6. C
7. B
8. C
9. D
10. A
11. D
12. B
13. D
14. B
15. A
16. C
17. A
18. C
19. B
20. D

11 HAZİRAN 2016 TARİHİNDE YAPILAN AÇIKÖĞRETİM LİSESİ / MESLEKİ AÇIKÖĞRETİM LİSESİ  
2015-2016 ÖĞRETİM YILI 3. DÖNEM SINAVI 1. OTURUM T KİTAPÇIĞI CEVAP ANAHTARI

(477) İŞLETME – 2

1. B
2. A
3. C
4. C
5. D
6. B
7. D
8. C
9. A
10. D
11. A
12. D
13. C
14. C
15. D
16. C
17. B
18. C
19. D
20. B

(484) SAĞLIK BİLGİSİ – 2

1. A
2. D
3. A
4. B
5. D
6. B
7. C
8. D
9. B
10. A
11. C
12. B
13. C
14. B
15. A
16. C
17. D
18. A
19. D
20. B

(502) İNGİLİZCE – 8

1. A
2. D
3. B
4. C
5. D
6. A
7. B
8. A
9. C
10. B
11. C
12. D
13. C
14. A
15. B
16. D
17. A
18. C
19. D
20. A

(502) FRANSIZCA – 8

1. D
2. C
3. C
4. B
5. A
6. C
7. D
8. C
9. B
10. C
11. A
12. C
13. D
14. D
15. B
16. B
17. C
18. B
19. D
20. C

(479) MANTIK – 2

1. A
2. C
3. A
4. C
5. B
6. D
7. C
8. D
9. A
10. D
11. B
12. D
13. B
14. C
15. D
16. A
17. B
18. A
19. B
20. D

(491) TRAF. VE İLK YARD. – 1

1. D
2. C
3. A
4. B
5. D
6. A
7. B
8. A
9. D
10. B
11. A
12. C
13. C
14. D
15. B
16. C
17. D
18. B
19. A
20. C

(502) ALMANCA – 8

1. A
2. C
3. B
4. D
5. A
6. C
7. B
8. A
9. D
10. B
11. C
12. C
13. B
14. A
15. C
16. B
17. D
18. C
19. D
20. A

(511) FIKİH – 1

1. B
2. D
3. A
4. A
5. B
6. C
7. D
8. D
9. C
10. A
11. B
12. C
13. C
14. A
15. D
16. B
17. C
18. A
19. D
20. D

11 HAZİRAN 2016 TARİHİNDE YAPILAN AÇIKÖĞRETİM LİSESİ / MESLEKİ AÇIKÖĞRETİM LİSESİ  
2015-2016 ÖĞRETİM YILI 3. DÖNEM SINAVI 1. OTURUM T KİTAPÇIĞI CEVAP ANAHTARI

(532) HZ. MUHAMMED'İN HAY. – 2

1. D
2. C
3. A
4. C
5. B
6. C
7. A
8. A
9. D
10. D
11. C
12. B
13. B
14. A
15. A
16. D
17. B
18. A
19. C
20. D

(611) KARŞ. DİN. TARİHİ – 1

1. D
2. B
3. C
4. B
5. A
6. B
7. A
8. D
9. C
10. A
11. D
12. A
13. C
14. A
15. B
16. D
17. B
18. C
19. D
20. C

(618) SEÇ. DİL ve ANLA. – 8

1. C
2. A
3. C
4. D
5. C
6. C
7. B
8. D
9. D
10. C
11. B
12. C
13. A
14. B
15. A
16. B
17. B
18. D
19. B
20. A

(627) SEÇ. TÜRK ED. –7

1. D
2. A
3. B
4. C
5. B
6. A
7. B
8. C
9. D
10. B
11. D
12. C
13. D
14. A
15. B
16. A
17. C
18. C
19. B
20. D

(609) MATEMATİK – 6

1. D
2. A
3. C
4. B
5. A
6. D
7. B
8. C
9. D
10. D
11. B
12. C
13. B
14. A
15. C
16. D
17. C
18. B
19. A
20. C

(617) SEÇ. DİL ve ANLA. – 7

1. C
2. D
3. A
4. B
5. B
6. A
7. D
8. C
9. C
10. B
11. D
12. A
13. B
14. C
15. A
16. D
17. A
18. D
19. A
20. B

(624) SEÇ. TÜRK ED. – 4

1. C
2. A
3. D
4. C
5. D
6. A
7. B
8. B
9. A
10. D
11. D
12. A
13. C
14. D
15. A
16. A
17. B
18. B
19. C
20. C

(628) SEÇ. TÜRK ED. –8

1. C
2. A
3. D
4. C
5. B
6. B
7. D
8. C
9. B
10. A
11. A
12. D
13. C
14. B
15. D
16. C
17. A
18. B
19. A
20. C

11 HAZİRAN 2016 TARİHİNDE YAPILAN AÇIKÖĞRETİM LİSESİ / MESLEKİ AÇIKÖĞRETİM LİSESİ  
2015-2016 ÖĞRETİM YILI 3. DÖNEM SINAVI 1. OTURUM T KİTAPÇIĞI CEVAP ANAHTARI

(711) İSLAM TARİHİ – 1

1. B
2. D
3. B
4. A
5. C
6. D
7. B
8. A
9. C
10. D
11. A
12. D
13. B
14. A
15. C
16. D
17. C
18. B
19. A
20. C

(931) SİYER – 1

1. C
2. D
3. A
4. B
5. C
6. D
7. D
8. C
9. B
10. A
11. C
12. B
13. A
14. D
15. A
16. B
17. D
18. C
19. B
20. A

(999) MATEMATİK – 2

1. B
2. D
3. C
4. A
5. D
6. A
7. C
8. B
9. A
10. A
11. C
12. D
13. C
14. A
15. B
16. D
17. C
18. B
19. A
20. D

(811) KELAM – 1

1. C
2. D
3. A
4. C
5. C
6. B
7. D
8. A
9. B
10. A
11. D
12. D
13. B
14. A
15. B
16. C
17. C
18. D
19. D
20. B

(974) GİRİŞİMCİLİK – 1

1. D
2. A
3. D
4. A
5. B
6. B
7. D
8. D
9. B
10. A
11. D
12. A
13. B
14. B
15. C
16. D
17. A
18. D
19. C
20. C