

OTURUM

1



T.C.

MİLLÎ EĞİTİM BAKANLIĞI

ÖLÇME, DEĞERLENDİRME VE SINAV HİZMETLERİ

GENEL MÜDÜRLÜĞÜ

AÇIK ÖĞRETİM LİSESİ / MESLEKİ AÇIK ÖĞRETİM LİSESİ

2015-2016 ÖĞRETİM YILI EK SINAV

1. OTURUM: 21 AĞUSTOS 2016 Saat: 9.30

T

DERS KODU VE ADI	SAYFA	DERS KODU VE ADI	SAYFA	DERS KODU VE ADI	SAYFA
(115) DİN KÜL. AHL. BİL. – 5	3	(242) İNGİLİZCE – 3	37	(465) TEMEL DİNİ BİL. – 1	72
(116) DİN KÜL. AHL. BİL. – 6	4	(242) ALMANCA – 3	38	(466) TEMEL DİNİ BİL. – 2	73
(117) DİN KÜL. AHL. BİL. – 7	5	(242) FRANZIZCA – 3	39	(478) MANTIK – 1	75
(118) DİN KÜL. AHL. BİL. – 8	6	(243) İNGİLİZCE – 4	40	(479) MANTIK – 2	76
(121) FELSEFE – 1	8	(243) ALMANCA – 4	41	(483) SAĞLIK BİLGİSİ – 1	77
(122) FELSEFE – 2	9	(243) FRANZIZCA – 4	42	(484) SAĞLIK BİLGİSİ – 2	79
(131) TARİH – 1	10	(244) İNGİLİZCE – 5	43	(491) TRAF. VE İLK YARD. – 1	80
(132) TARİH – 2	12	(244) ALMANCA – 5	44	(492) TRAF. VE İLK YARD. – 2	82
(133) TARİH – 3	13	(244) FRANZIZCA – 5	44	(500) İNGİLİZCE – 6	84
(134) TARİH – 4	14	(403) DİL VE ANLATIM – 3	45	(500) ALMANCA – 6	84
(135) TARİH – 5	15	(404) DİL VE ANLATIM – 4	48	(500) FRANZIZCA – 6	85
(136) TARİH – 6	16	(405) DİL VE ANLATIM – 5	49	(501) İNGİLİZCE – 7	86
(141) T.C. İNK. TAR. VE ATA. – 1	18	(406) DİL VE ANLATIM – 6	51	(501) ALMANCA – 7	87
(142) T.C. İNK. TAR. VE ATA. – 2	19	(407) DİL VE ANLATIM – 7	53	(501) FRANZIZCA – 7	88
(153) COĞRAFYA – 3	20	(408) DİL VE ANLATIM – 8	54	(502) İNGİLİZCE – 8	89
(154) COĞRAFYA – 4	22	(413) TÜRK EDEBİYATI – 3	56	(502) ALMANCA – 8	90
(155) COĞRAFYA – 5	23	(414) TÜRK EDEBİYATI – 4	57	(502) FRANZIZCA – 8	91
(156) COĞRAFYA – 6	25	(415) TÜRK EDEBİYATI – 5	59	(533) HZ. MUHAMMED'İN HAY. – 3	92
(157) COĞRAFYA – 7	26	(416) TÜRK EDEBİYATI – 6	61	(534) HZ. MUHAMMED'İN HAY. – 4	93
(158) COĞRAFYA – 8	28	(417) TÜRK EDEBİYATI – 7	62	(608) DEMOKRASİ ve İNS. HAK. – 2	95
(163) MATEMATİK – 3	29	(418) TÜRK EDEBİYATI – 8	64	(611) KARŞ. DİN. TAR. – 1	96
(164) MATEMATİK – 4	31	(431) KİMYA – 1	65	(612) KARŞ. DİN. TAR. – 2	98
(206) PSİKOLOJİ – 1	32	(432) KİMYA – 2	67	(811) KELAM – 1	99
(207) PSİKOLOJİ – 2	33	(441) BİYOLOJİ – 1	68	(812) KELAM – 2	100
(208) SOSYOLOJİ – 1	35	(442) BİYOLOJİ – 2	70	(974) GİRİŞİMCİLİK – 1	101
(209) SOSYOLOJİ – 2	36	(452) Ç. TÜRK ve DÜNYA TAR. – 2	71		

ADAYLARIN DİKKATİNE!

- Her ders için **20** soru bulunmaktadır. Bu oturumda **180** dakikalık cevaplama süreniz vardır. Sınav başladıktan sonra ilk **30** dakika dolmadan dışarı çıkmayınız.
- Sınav sırasında sözlük, hesap cetveli veya makinesi, çağrı cihazı, cep telefonu, telsiz, radyo ve bilgisayar özelliği bulunan elektronik cihazlarınızı yanınızda bulundurmuyunuz. Bu araçları kullanmanız ve kopya çekmeye teşebbüs etmeniz hâlinde sınavınız geçersiz sayılacaktır.
- Başvuru şartlarını taşımadığınız hâlde sınava girmeniz, kopya çekmeniz, başka adayın sınav evrakını kullanmanız, geçerli kimlik belgenizi ve sınav giriş belgenizi ibraz edemediğiniz durumlarda sınavınız geçersiz sayılacaktır.
- Sınavın değerlendirilmesi aşamasında, bilgisayar ortamında yapılan kopya analizinde ikili veya toplu kopya tespiti hâlinde sınavınız geçersiz sayılacaktır.

CEVAP KÂĞIDI VE SORU KİTAPÇIĞI İLE İLGİLİ AÇIKLAMALAR

- Cevap kâğıdınızdaki bilgilerin doğruluğunu kontrol ediniz ve cevap kâğıdınızı mürekkepli kalemle imzalayınız.
- Soru kitapçığının sayfalarını görevlilerin uyarıları doğrultusunda kontrol ediniz, baskı hatası var ise değiştirilmesini sağlayınız.
- Soruların çözümü için size ayrıca boş kâğıt verilmeyecektir. Soru kitapçığının içindeki boş alanları soru çözümleri için kullanabilirsiniz.
- Her sorunun dört seçeneğinden sadece biri doğrudur. Doğru seçeneği, cevap kâğıdınızın ilgili sütununa soru numarasını dikkate alarak yuvarlağın dışına taşırmadan kodlayınız. **Soru kitapçığı üzerinde yapılan cevaplandırmalar dikkate alınmayacaktır.**
- Cevap kâğıdı üzerinde kodlamalarınızı kurşun kalemle yapınız.
- Değiştirmek istediğiniz bir cevabı, yumuşak silgiyle cevap kâğıdını örselemeden temizce siliniz ve yeni cevabınızı kodlayınız.
- Cevaplamaya istediğiniz dersin sorusundan başlayabilirsiniz. Cevabını bilmediğiniz sorular üzerinde fazla zaman kaybetmeden diğer sorulara geçiniz. Zamanınız kalırsa bu sorulara daha sonra dönebilirsiniz.
- Yanlış cevaplarınız dikkate alınmadan sadece doğru cevaplarınız üzerinden puanlama yapılacaktır.
- Soruları ve sorulara verdiğiniz cevapları, yanınızda götürmek amacıyla kaydetmeyiniz; hiçbir şekilde dışarı çıkarmayınız.
- Sınav bitiminde, soru kitapçığı ve cevap kâğıdını salon görevlilerine teslim ediniz, aksi takdirde sınavınız geçersiz sayılacaktır.**

BAŞLAYINIZ DENMEDEN SORU KİTAPÇIĞINI AÇMAYINIZ.

1. OTURUM

(115) DİN KÜL. AHL. BİL. – 5

1. "Kim hidayet yolunu seçerse bunu ancak kendi iyiliği için seçmiş olur; kim de doğruluktan ayrılırsa kendisine zarar vermiş olur."
(İsra Suresi, 15. ayet)

Bu ayette vurgulanan ana düşünce aşağıdakilerden hangisidir?

- A) İyiliğin değeri
B) İnsanın sorumluluğu
C) Kadere teslimiyetin önemi
D) Doğruluğun dinimizdeki yeri

2. Bir amaca ulaşmak için gereken bütün tedbirleri aldıktan sonra işin sonucunu Allah'a bırakıp ondan yardım beklemeye ne denir?

- A) Tevekkül B) Kaza
C) Kader D) İrade

3. Aşağıdakilerden hangisi ibadetlerde samimiyet anlayışına uygun düşmez?

- A) Gösterişten uzak olmak.
B) Allah'ın rızasını gözetmek.
C) Maddi çıkar beklemek.
D) İçtenlikle davranmak.

4. Hz. Muhammed (sav.)'in doğum günü olarak kutlanan kandil aşağıdakilerden hangisidir?

- A) Mevlit B) Regaip
C) Kadir D) Miraç

5. Toplumsal yardımlaşma ve dayanışmaya katkısı diğerlerine göre daha az olan ibadet aşağıdakilerden hangisidir?

- A) Kurban B) Hac
C) Zekat D) Sadaka

6. Aşağıdakilerden hangisi örnek bir Müslüman'ın özelliği olamaz?

- A) Akrabalarını ziyaret eder.
B) Boş ve yararsız işlerden uzak durur.
C) Ölçü ve tartıda hile yapmaz.
D) Başkalarının kusurları ile alay eder.

7. İslam tarihinde Hz. Muhammed'in vefatından sonra halifeliğe Hz. Ali'nin getirilmesinin gerektiğini savunan mezhep aşağıdakilerden hangisidir?

- A) Mürcie B) Mutezile
C) Şia D) Eşarilik

8. • Mutezile mezhebine bir tepki olarak doğmuştur.
• İslam dininin inançla ilgili konularını Kur'an ve Sünnet temelinde akılla yorumlayarak açıklamıştır.
• İyi - kötü akılla değil vahiyle bilinir.

Verilen bu bilgiler aşağıdaki mezheplerden hangisine aittir?

- A) Eşarilik B) Hanbelilik
C) Maturidilik D) Haricilik

9. Aşağıdakilerden hangisi tevekkül anlayışı kapsamında değerlendirilemez?

- A) Çiftçinin tarlayı sürüp ekmesi.
B) Öğrencinin hazırlanıp sınava girmesi.
C) Hastanın ilacını kullanması.
D) Namaz kılanın abdest alması.

10. Aşağıdakilerden hangisi İslam düşüncesinde ortaya çıkan fıkhi mezheplerden biridir?

- A) Haricilik B) Şifilik
C) Şafilik D) Eşarilik

11. Allah'ın önceden bilip takdir ettiği olayların yeri ve zamanı gelince gerçekleşmesine ne denir?

- A) Kader B) Kaza
C) İrade D) Tevekkül

12. Hayır ve şer hakkında aşağıdakilerden hangisi söylenemez?

- A) Hayrı da şerri de Allah yaratır.
B) İslam, insanı şerden uzaklaşmaya yöneltir.
C) Allah, insanlara hayır olanı emretmiştir.
D) Şer, Allah'ın iradesi ve takdiri dışında gerçekleşir.

13. "Müslüman, elinden ve dilinden başkalarının zarar görmediği kimse dir."

Yukarıda verilen hadis-i şerifte, İslam'ın ahlaki prensiplerinden hangisi vurgulanmaktadır?

- A) Hayır yapma
B) Kararlık olma
C) Güvenilir olma
D) Misafire ikram etme

14. Aşağıdakilerden hangisi ibadetlerle ilgili ilkelerden biri olamaz?

- A) Gösterişten uzak olmak
B) İsteklilik ve samimiyet
C) Kolaylık ve güç yetirebilirlik
D) Toplumun beğenisini kazanmak

15. Farz ibadetlerin yerine getirilmesinde aşağıdakilerden hangisi aranmaz?

- A) Sabırlı olmak
B) Gizli yapmak
C) Samimi olmak
D) Kolayı tercih etmek

16. Aşağıdakilerden hangisi ibadetlerdeki kolaylığa örnek verilemez?

- A) Su bulunmadığında teyemmüm ile abdest alınması
B) Hasta veya yaşlılıktan dolayı ayakta duramayanların oturarak namaz kılması
C) Zengin Müslümanların malının kırkta birini zekât olarak vermesi
D) Yolculuk durumunda dört rekâtlık farz namazın iki rekât olarak kılması

17. Hz. Muhammed (sav.), kendisini ziyarete gelen Necranlı Hristiyanların Mescid-i Nebi'nin içinde ibadet etmelerine izin vermiştir.

Peygamberimizin bu tutumu onun hangi özelliği ile ilişkilidir?

- A) Merhameti
B) Sabrı
C) Hoşgörüsü
D) Adaleti

1. OTURUM

18. Hz. Muhammed (sav.), İslam'ın on üç yıllık Mekke Döneminde müşriklerin her türlü baskı ve zorlamaları karşısında davasından vazgeçmemiştir. Azimli bir şekilde insanları İslam'a davet etmiştir.

Bu metinde Hz. Muhammed (sav.)'in hangi yönüne işaret edilmektedir?

- A) Güvenirliğine
B) Kararlılığına
C) Merhametine
D) Hoşgörüsüne

19. Arayı arayı bulsam izini
İzinin tozuna sürsem yüzümü,
Hak nasip eylese görsem yüzünü
Ya Muhammed canım arzular seni.

Bu dörtlükte Hz. Muhammed (sav.) için öne çıkan duygu aşağıdakilerden hangisidir?

- A) Özlem
B) Saygı
C) Övgü
D) Bağlılık

20. Büyük günah işleyen ne mümindir
ne de kâfirdir. Yani iman ile küfür
arasında bir yeredir.

Bu düşünce aşağıdaki mezheplerden hangisine aittir?

- A) Şiiilik
B) Eş'arilik
C) Maturidilik
D) Mutezile

(116) DİN KÜL. AHL. BİL. – 6

1. Aile ile ilgili verilen bilgilerden hangisi yanlıştır?

- A) Ekonomik gelişme aileyi ortadan kaldırır.
B) Topluma yararlı bireyler kazandırır.
C) Huzurlu bir toplumun oluşmasına katkıda bulunur.
D) İnsan neslinin sağlıklı çoğalmasını sağlar.

2. Diyanet İşleri Başkanlığı'nın il ve ilçe kuruluşlarının başında görevli olan kişiye ne ad verilir?

- A) Vaiz
B) İmam - Hatip
C) Müftü
D) Müezzin - Kayyım

3. "Yavrucuğum! Namazı kıl, iyiliği emret, kötülükten vazgeçirmeye çalış, başına gelenlere sabret. Doğrusu bunlar azmedilmeye değer işlerdir. Küçümseyerek insanlardan yüz çevirme ve yeryüzünde böbürlenerek yürüme. Zira Allah kendini beğenmiş övünüp duran kimseleri asla sevmez." (Lokman Suresi, 17 ve 18. ayetler)

Aşağıdakilerden hangisi Hz. Lokman'ın oğluna yaptığı nasihatlerden biri değildir?

- A) İbadetlerini yerine getir!
B) Kötülükleri görmezden gel!
C) Sabırlı davran!
D) Alçak gönüllü ol!

4. Divan Edebiyatı'nda, Peygamberimiz'e duyulan sevgi ve saygıyı ortaya koyan, onu öven şiirlere ne ad verilir?

- A) Münacaat
B) Na'at
C) Mersiye
D) Gazel

5. Altın tozu ve boya kullanılarak sayfa kenarları, kitap başlıkları ve el yazması kitapların süslenmesi sanatına ne ad verilir?

- A) Tezhip
B) Hüsnü Hat
C) Minyatür
D) Ebru

6. • Kağıt süsleme sanatlarından biridir.
• Özel boyalarla yapılır.
• Su üzerine yapılan şekiller kağıda çıkarılır.

Bu bilgiler aşağıda verilen sanat dallarından hangisine aittir?

- A) Hüsnü Hat
B) Minyatür
C) Ebru
D) Tezhip

7. İslam medeniyetinde, kağıt veya deri üzerine yapılan ışık, gölge ve derinliği olmayan küçük boyutlu ve renkli resimlere ne ad verilir?

- A) Ebru
B) Tezhip
C) Hüsnü Hat
D) Minyatür

8. Diyanet İşleri Başkanlığı aşağıdaki kurumlardan hangisine bağlıdır?

- A) İçişleri Bakanlığı
B) Başbakanlık
C) Cumhurbaşkanlığı
D) Milli Eğitim Bakanlığı

9. Cami ve mescitlerde din hizmetlerini yürütenlerin yanında ezan okuma ve kamet getirme görevlerini yapan kişiye ne ad verilir?

- A) İmam - Hatip
B) Vaiz
C) Müezzin - Kayyım
D) Müftü

10. Camilerin iç süslemelerinde, ayetlerin (Kur'an-ı Kerim'in) yazımında levha ve tablolarla görülen güzel ve estetik yazı yazma sanatına ne ad verilir?

- A) Ebru
B) Hüsnü Hat
C) Tezhip
D) Minyatür

11. Aşağıdakilerden hangisi İslam'ın evliliğe bakışını yansıtmaz?

- A) Evliliği tavsiye etmiştir.
B) Eşlerden birbirlerinin haklarını gözetmesini istemiştir.
C) Evliliği iffet ve namusu korumanın en etkili yolu olarak görmüştür.
D) Her ne sebeple olursa olsun boşanmayı yasaklamıştır.

12. Aşağıdakilerden hangisi insanın sanatla ilgili değer yargılarını ifade eder?

- A) Sevap-Günah
B) İyi-Kötü
C) Güzel-Çirkin
D) Doğru-Yanlış

13. Aşağıdaki isimlerden hangisi musiki alanında meşhurdur?

- A) Dede Efendi
B) Şeyh Galip
C) Hafız Osman
D) Süleyman Çelebi

1. OTURUM

(117) DİN KÜL. AHL. BİL. – 7

14. Hak Dini Kur'an Dili adlı tefsir çalışmasını aşağıdakilerden hangisi yapmıştır?

- A) Kâmil Miras
- B) Konyalı Mehmet Efendi
- C) Babanzade Ahmet Naim
- D) Elmalılı Muhammed Hamdi Yazır

15. Diyanet İşleri Başkanlığı ne zaman kurulmuştur?

- A) 1920
- B) 1924
- C) 1927
- D) 1930

16. Diyanet İşleri Başkanlığı'nın en yüksek karar ve danışma organı aşağıdakilerden hangisidir?

- A) Din İşleri Yüksek Kurulu
- B) Mushafı İnceleme ve Kıraat Kurulu
- C) Din Hizmetleri Genel Müdürlüğü
- D) Eğitim Hizmetleri Genel Müdürlüğü

17. İslam mimarisinin aşağıdaki önemli eserlerinden hangisi ülkemizde yer almaktadır?

- A) Emeviye Camii
- B) Kurtuba Camii
- C) Selimiye Camii
- D) Kubbetü's-Sahra Camii

18. Aşağıdaki eserlerden hangisi Ahmet Yesevi'ye aittir?

- A) Divan-ı Hikmet
- B) Makalat
- C) Vesiletü'n-Necat
- D) Mesnevi

19. Aşağıdakilerden hangisi Diyanet İşleri Başkanlığı'na bağlı olarak çalışmaz?

- A) Vaiz
- B) Müezzin-Kayyım
- C) Kur'an Kursu Öğreticisi
- D) Din Kültürü ve Ahlak Bilgisi Öğretmeni

20. Hüsnühat sanatı aşağıdaki mimari eserlerin hangisinde daha yoğun olarak kullanılmıştır?

- A) Çeşme
- B) Cami
- C) Şadırvan
- D) Kümbet

1. "Onlar, ayakta dururken, otururken, yanları üzerine yatarken (her vakit) Allah'ı anarlar, göklerin ve yerin yaratılışı hakkında derin derin düşüncüler (ve şöyle derler:) Rabbimiz! Sen bunu boşuna yaratmadın. Seni tesbih ederiz. Bizi cehennem azabından koru!"
(Â-i İmrân suresi, 191. ayet)

Bu ayetten aşağıdakilerden hangisi çıkarılamaz?

- A) Yaratılanların en şerefli insanıdır.
- B) Ömrün her anında Allah hatırlanmalıdır.
- C) Evrendeki düzen ve uyum düşünülmelidir.
- D) Evrendeki her şey bir amaca göre yaratılmıştır.

2. Aşağıdakilerden hangisi ahiret inancının faydalarından biri değildir?

- A) Sorumluluk duygusunu geliştirir.
- B) Bencillik ve aşırı hırs duygularını artırır.
- C) Kişiyi güzel ahlâka ve hayırlı işlere yöneltir.
- D) İnsana huzur ve güven duygusu kazandırır.

3. O demde ki, perdeler kalkar perdeler iner
Azrail'e "hoş geldin" diyebilmekte hüner
Kapı kapı bu yolun son kapısı ölümse;
Her kapıda ağlayıp, o kapıda gülümse.
(Necip Fazıl KISAKÜREK)

Verilen dörtlükte aşağıdakilerden hangisi vurgulanmaktadır?

- A) Dünyada çok çalışmalıdır.
- B) Dünyada çok ağlanmalıdır.
- C) Ölümden korkulmamalıdır.
- D) Ölüme hazırlıklı olunmalıdır.

4. "Kişi kıyamet gününde şu dört şeyden hesaba çekilmedikçe yerinden ayrılamaz...."

Verilen hadisin devamında aşağıdaki ifadelerden hangisi yer almaz?

- A) Zengin olup olmadığından
- B) Ömrünü nerede geçirdiğinden
- C) Bildiği ile amel edip etmediğinden
- D) Malını nerede kazanıp nereye harcadığından

5. "İnanıp da imanlarına herhangi bir zulüm bulaştırmayanlar..." (En'am suresi, 82. ayet) ayetindeki zulümden kastın, "şirk" olduğu hadis ile belirtilmiştir.

Bu durum sünnetin Kur'an'ı açıklamadaki hangi yönüne örnektir?

- A) Te'kid
- B) Tefsir
- C) Temsil
- D) Teşri'

6. Aşağıdakilerden hangisi tasavvufun amaçlarından biri değildir?

- A) İnsanın ahlâkî yönden gelişmesi ve olgunlaşması
- B) Yapılan işlerde samimiyet ve ihlasın yakalanması
- C) İnsanların refah düzeyinin yükseltilmesi
- D) Allah'ın hoşnutluğunun kazanılması

7. Alevilik - Bektaşilik kültüründe iki ailenin Dede huzurunda kurban keserek hayat boyu yol kardeşi olmaya söz vermesine - - - - denir.

Cümlede boş bırakılan yere aşağıdakilerden hangisi getirilmelidir?

- A) Aşure
- B) Semah
- C) Gülbenk
- D) Musahiplik

8. Yüce Allah'ın "Es-Settar" ismi şerifi aşağıdakilerden hangisini ifade etmektedir?

- A) Çok affedici, çok bağışlayan
- B) Tövbeleri kabul eden
- C) Çok merhametli olan
- D) Hata ve günahları örten

1. OTURUM

9. Sünnet hakkında aşağıda verilen bilgilerden hangisi doğrudur?

- A) Sünnet, Kur'an'ın açıklayıcısıdır.
- B) Dinde ilk başvurulacak kaynaktır.
- C) Sahabe sözleri de Sünnet kabul edilir.
- D) Fıkıh âlimlerinin yaşayışının örnek alınmasıdır.

10. Aşağıdaki namazlardan hangisi farz-ı kifayedir?

- A) Cuma
- B) Teravih
- C) Cenaze
- D) Bayram

11. "Kulunun tövbesinden dolayı Allah Teâlâ'nın sevinci, sizden biriniz ıssız çölde devesini kaybedip de tekrar bulduğunda duyduğu sevinçten daha fazladır."

Aşağıdakilerden hangisi bu hadisten çıkarılamaz?

- A) Allah insanların Rabb'idir.
- B) İnsan kendisine yapılanları affetmelidir.
- C) Allah kullarının tövbesini kabul edendir.
- D) Hatadan dönmek Allah'ın rızasını kazandırır.

12. Hz. Muhammed (sav.)'i diğer insanlardan ayıran özelliği aşağıdakilerden hangisidir?

- A) Peygamberliği
- B) Kişisel tercihleri
- C) Ahlaki özellikleri
- D) Yerel davranışları

13. Kütübü sitte ile ilgili aşağıdaki bilgilerden hangisi doğrudur?

- A) Ahmet b. Hanbel' in hadis alanında yazdığı eserdir.
- B) Hadis Usulü alanında yazılan eserlerin genel ismidir.
- C) Hadis alanında muteber kabul edilen altı hadis kitabıdır.
- D) Hz. Peygamber'in hayatının tamamının anlatıldığı kitaplardır.

14. Tasavvufi oluşumlardan Kâdirilik hangi İslam büyüğünün görüşleri etrafında şekillenmiştir?

- A) Ahmet Yesevi
- B) Bahaeddin Nakşibend
- C) Abdulkadir Geylani
- D) Şeyh Yusuf Hamadani

15. İslam'a göre hatadan dönmek bir - - - - , tövbe etmek ise - - - - bir gerekliliktir.

Cümlede boş bırakılan yerlere anlama uygun olarak aşağıdakilerden hangileri getirilmelidir?

- A) erdem - dini
- B) ibadet - örfi
- C) dua - yasal
- D) tutarsızlık - insani

16. İslam'ın ahiret inancı ile ilgili aşağıdaki bilgilerden hangisi yanlıştır?

- A) Ölüm ahiret hayatının başlangıcıdır.
- B) Yaşam dünya ile sınırlıdır.
- C) Ahiret inancı hayatı anlamlandırır.
- D) Ahirete iman sorumluluğu geliştirir.

17. Aşağıdakilerden hangisi cenaze namazında yer almaz?

- A) Tekbir
- B) Selam
- C) Secde
- D) Niyet

18. Aşağıdakilerden hangisi hoşgörü ortamının oluşmasına zarar veren davranışlardan biridir?

- A) Bağışlamak
- B) Kusurları örtmek
- C) Merhametli olmak
- D) Hataları yüze vurmamak

19. Aşağıdakilerden hangisi Alevilik-Bektaşilik kültürüne ait bir kavram değildir?

- A) Gülbenk
- B) Otuz üç farz
- C) Üç sünnet, yedi farz
- D) Dört kapı kırk makam

20. Allah tüm varlığın yaratıcısı ve sahibidir. Allah varlıkları bir düzen ve ölçü içinde yaratmıştır. Yaratılanlar Allah'ın varlığı ve birliğine birer delildir.

Bu metinde aşağıdaki ilişkilerden hangisi vurgulanmıştır?

- A) Yaratıcı - Yaratılan
- B) Ahlak - Estetik
- C) Bilgi - Varlık
- D) Din - Bilim

(118) DİN KÜL. AHL. BİL. – 8

1. Aşağıdakilerden hangisi Hz. Muhammed (sav.)'in peygamberlikten önce de "barış elçisi" olduğuna örnektir?

- A) Mekke'nin fethi sonrasında af uygulaması
- B) Medine Sözleşmesi'ni imzalaması
- C) Hudeybiye Antlaşması'nı yapması
- D) Hilful-Fudul'a üye olması

2. Hz. Peygamber İslam'a davet için Taif'e gittiğinde, kendisine yapılan eziyetlere rağmen onlara beddua değil dua etmiştir.

Bu durum Hz. Peygamber'in aşağıdaki özelliklerden hangisi ile ilişkilendirilemez?

- A) Affetmek
- B) Hoşgörü
- C) Cesaret
- D) Merhamet

3. İslam'a göre, barış ile ilgili aşağıdaki cümlelerden hangisi doğrudur?

- A) Barış içinde yaşayan toplumlar daha huzurlu olur.
- B) Barış geçici, savaş daimi bir durum olmalıdır.
- C) Barış daha çok mazlumlar için gereklidir.
- D) Savaş ile asla barış ortamı sağlanamaz.

4. Kurban Bayramı hangi ayda yer almaktadır?

- A) Rebiulevvel
- B) Ramazan
- C) Zilhicce
- D) Şevval

1. OTURUM

5. **Tevhi-i Tedrisat Kanunu'nun amacı aşağıdakilerden hangisidir?**

- A) Din eğitimini kaldırmak
- B) Eğitim ve öğretimde birliği sağlamak
- C) Azınlıkların eğitim haklarını engellemek
- D) Medreselerin modernizasyonunu sağlamak

6. **Hız Adem (as)' den Hz. Muhammed (sav.)'e kadar gönderilen peygamberlerin insanlara öğrettikleri inanca ne ad verilir?**

- A) Teslis
- B) Tebliğ
- C) Tevhit
- D) Tevekkül

7. **Aşağıdakilerden hangisi Hz. Davud'un oğludur?**

- A) Hz. Musa
- B) Hz. Harun
- C) Hz. Üzeyr
- D) Hz. Süleyman

8. • İbadet esnasında Kudüs'e dönülür.
• Mabetlerde kadınlar ayinlere katılamazlar.
• İbadet sırasında erkekler başlarına kipa alırlar.

Verilen bilgiler aşağıdaki dinlerden hangisiyle ilgilidir?

- A) Budizm
- B) Hinduizm
- C) Yahudilik
- D) Hristiyanlık

9. **Budizm'deki kavramlar ve anlamları ile ilgili verilen eşleştirmelerden hangisi doğrudur?**

- A) Tripitaka - Kutsal mekânlar
- B) Nirvana - Manevi bir makam
- C) Dhamma - Buda'nın lakabı
- D) Buda - Rahipler teşkilatı

10. **"Yaratılanı hoş gör, Yaradan'dan ötürü."**

Yunus Emre'nin bu sözünde aşağıdakilerden hangisi vurgulanmıştır?

- A) Kendini üstün görmemek
- B) Akriba ve yakınları gözetmek
- C) İnsanlar arasında adil davranmak
- D) Varlıklara sevgi ve merhametle yaklaşmak

11. **İslam dini ile ilgili aşağıdaki bilgilerden hangisi yanlıştır?**

- A) Toplumların ilmi gelişmelerinde engelleyici bir etkiye sahiptir.
- B) Toplumun birlik ve beraberlik içerisinde yaşamasına katkı sağlar.
- C) Millî kültür ve kimliğin oluşmasında önemli bir etkisi vardır.
- D) Toplumsal ahlakın oluşmasında önemli etkiye sahiptir.

12. **Aşağıdakilerden hangisi Cumhuriyet Dönemi'nde yapılan çalışmalardan biri değildir?**

- A) Diyanet İşleri Başkanlığı'nın kurulması
- B) Mesnevi'nin Türkçe'ye tercüme edilmesi
- C) "Hak Dini Kur'an Dili" adlı Türkçe tefsirin hazırlanması
- D) "Sahihi Buhari Muhtasarı Tecridi Sarih Tercemesi" kitabının hazırlanması

13. **Kur'an-ı Kerim hakkında aşağıdaki bilgilerden hangisi yanlıştır?**

- A) 23 senede ayet ayet indirilmiştir.
- B) İlk suresi Bakara, son suresi ise İhlas'tır.
- C) Son ilahi kitaptır ve mesajları evrenseldir.
- D) Ayetleri vahiy kâtipleri tarafından yazıya geçirilmiştir.

14. **Aşağıdaki ibadetlerin hangisi sosyal yardımlaşmaya ve dayanışmayı hedeflemektedir?**

- A) Hac
- B) Oruç
- C) Zekât
- D) Namaz

15. **Aşağıdaki kandillerden hangisi Ramazan ayında kutlanır?**

- A) Kadir
- B) Berat
- C) Miraç
- D) Regaip

16. **İlkel kabile dinlerinde ayin ve törenleri yöneten din adamlarına ne denir?**

- A) Mana
- B) Tabu
- C) Totem
- D) Şaman

17. **Hristiyanlık inancına göre bütün insanlar günahkâr olarak doğarlar. Bu yüzden bebeklerin ve Hristiyanlık dinine girecek olanların kutsal su ile yıkanarak günahlarından arınması gerekir.**

Hakkında bilgi verilen kavram aşağıdakilerden hangisidir?

- A) Vaftiz
- B) İstavroz
- C) Paskalya
- D) Teslis

18. **Allahu Teala sana anlamayı kolaylaştır. Kendi yolundan gitmeyi nasip etsin. Ey derviş! Sana ilk öğüdüm şu olsun: Komşunla ve ailenle iyi geçin. Misafirlerine ikramda bulun. Hiçbirinin kalbini kırma. Nerede kalpleri kırılan birisi varsa sen onun kalbini onar. Sana kötülük edenlere, sen iyilik et. Kurt, kuş, böcek, sinek, hayvan ve insanlardan hiç birisinin canını incitme. Herkes senden hoşnut olsun. Umulurki Allah Teala'da senden hoşnut olur.**

(Kitab-ı Cabbar Kulu)

Bu metinde tavsiye edilen davranışlar arasında aşağıdakilerden hangisi yer almaz?

- A) Allah'ın yolunda yürü.
- B) Yaratılana zarar verme.
- C) İbadetlerini vaktinde yerine getir.
- D) Herkesin gönlünü kazanmaya çalış.

19. **Aşağıdakilerden hangisinin İslam düşüncesinde yeri yoktur?**

- A) Antlaşmalara sadık kalmak
- B) Haksızlığa fazlasıyla karşılık vermek
- C) İnsanlara iyi ve güzeli tavsiye etmek
- D) Kendisi için istediğini kardeşi için de istemek

20. **Aşağıdakilerden hangisi İslam'a göre savaşmayı haklı kılan sebeplerden değildir?**

- A) Toprakları genişletmek
- B) Barışa katkı sağlamak
- C) Nefsi müdafaa etmek
- D) Hak ve hürriyetleri korumak

1. OTURUM

(121) FELSEFE – 1

1. Felsefede sorular cevaplardan daha önemlidir. Her cevap bir sonraki soruya zemin hazırlamaktadır. Felsefenin günümüze kadar gelmesinde soruların önemli bir rolü vardır.

Bu durum felsefenin hangi özelliğinden kaynaklanmaktadır?

- A) Evrenselliğinden
- B) Akla dayalı olmasından
- C) Arayış içinde olmasından
- D) Birleştirici ve bütünleştirici olmasından

2. Aşağıdaki bilgi türlerinden hangisi nesnelidir?

- A) Dinsel bilgi
- B) Felsefi bilgi
- C) Sanat bilgisi
- D) Teknik bilgi

3. Aşağıdakilerden hangisi felsefe ve dinin ortak amaçlarındanıdır?

- A) Evreni ve insanı anlama
- B) İlahi bilgileri insanlara iletme
- C) Kesin sonuçlara ulaşma
- D) Doğa yasalarını açıklama

4. Epistemoloji, bilgi üzerine sorular soran felsefe dalıdır.

Aşağıdakilerden hangisi epistemolojiye ait bir soru değildir?

- A) Bilginin kaynağı nedir?
- B) Bilgimiz kesin midir?
- C) Varlığın kökeni nedir?
- D) Doğru bilginin ölçütü nedir?

5. Sofistlere göre, "İnsan her şeyin ölçüsüdür, doğrular kişiden kişiye değişir."

Aşağıdaki yargılardan hangisi sofistlerin bu görüşünü destekler?

- A) Genel geçer doğru bilgi yoktur.
- B) Sezgi doğru bilgiye ulaşmada araçtır.
- C) Bilginin kaynağı akıldır.
- D) Kesin bilgiye ulaşılabilir.

6. Doğru bilginin kaynağının "akıl" olduğunu savunan görüş aşağıdakilerden hangisidir?

- A) Empirizm
- B) Rasyonalizm
- C) Pozitivizm
- D) Analitik felsefe

7. Apaçık doğru bilgiye ulaşmada şüpheyi yöntem olarak kullanan ve bunu "Düşünüyorum öyleyse varım." önermesiyle ifade eden rasyonalist filozof aşağıdakilerden hangisidir?

- A) John Locke
- B) Descartes
- C) David Hume
- D) Auguste Comte

8. "İnsan zihni dünyaya boş bir levha olarak gelir. Tüm bilgilerimizin kaynağı deney ve alışkanlıklardır."

Locke'un bu düşüncesi aşağıdaki yargılardan hangisine uygundur?

- A) Sezgiye dayanan bilgi doğru bilgidir.
- B) Doğru bilgiye ulaşamaz.
- C) Doğuştan gelen bilgiler yoktur.
- D) Bilginin kaynağı akıldır.

9. "Fenomenoloji"nin kelime anlamı aşağıdakilerden hangisidir?

- A) Akılcılık
- B) Olguculuk
- C) Eleştirecilik
- D) Görüngübilim

10. Faydacılık felsefe akımının temel düşüncesi aşağıdakilerden hangisidir?

- A) Doğru bilgiye akılla ulaşılır.
- B) Yararlı olan doğrudur, doğru olan yararlıdır.
- C) Her türlü bilgiden şüphe edilmelidir.
- D) Deneye dayanmayan bilgiler doğru değildir.

11. Bilim felsefesi; bilimin yapısını, konusunu, doğasını, bilimsel kuramlarla gerçeklik arasındaki ilişkiyi, ana kavramlarını, ulaştığı sonuçları ve yöntemini sorgular.

Buna göre, aşağıdakilerden hangisi bilim felsefesi için söylenemez?

- A) Bilimle ilgili sorular sorar.
- B) Bilimlerin kullandığı yöntemi sorgular.
- C) Bilim üzerine metafizik düşünceler üretir.
- D) Bilimsel teori ve gerçeklik ilişkisini irdeler.

12. "Kanun fi't Tıp" isimli eseri Batı dünyasında tıp fakültelerinde yakın zamana kadar ders kitabı olarak okutulan, hastalıkları psikolojik ve bedensel nedenlere bağlayan, aynı zamanda psikolojinin öncüsü olarak kabul edilen düşünür aşağıdakilerden hangisidir?

- A) Francis Bacon
- B) Batlamyus
- C) Harezmi
- D) İbni Sina

13. Reichenbach'a göre, bilimselliğin ölçütü olgulara dayanan doğrulanabilirliktir. Doğrulanabilme veya yanlışlanabilme özelliğine sahip olan önermeler anlamlıdır. Doğrulanamayan önermeler anlamsız bilim dışıdır.

Bu açıklamaya göre aşağıdakilerden hangisi anlamsız önermeye örnektir?

- A) Kar beyazdır.
- B) Ruh ölümsüzdür.
- C) Ali'nin boyu 150 cm'dir.
- D) İstanbul 1453'te fethedilmiştir.

14. Aşağıdakilerden hangisi bilimi etkinlik olarak gören filozoflardandır?

- A) Carnap
- B) Hempel
- C) Reichenbach
- D) Toulmin

1. OTURUM

15. Araştırmacının inançlarından, kanaatlerinden, dünya görüşünden bağımsız bir bilgi ortaya koyması bilimsel bilginin hangi özelliğe sahip olduğunu gösterir?

- A) Mantıksallığa
- B) Olgusallığa
- C) Objektifliğe
- D) Eleştiriciliğe

16. Toplumda makineleşmeyle beraber insan, makine zindanında tutuklu bir hale geliyor. Hayatımızı kolaylaştıran makine, insanın düşünce, irade ve duygusunun yerine geçiyor. Tanıdığımız insan ruhu ve hissiyatı değişerek yeni bir insan oluşuyor ve makine insanın fonksiyonunun yerine geçiyor.

Buna göre aşağıdakilerden hangisine ulaşamaz?

- A) Teknolojinin hayatı kolaylaştırmasına
- B) İnsanın iradi özelliklerinin azalmasına
- C) Makineleşmenin insan hayatını etkilediğine
- D) Makineleşmenin insanın özgürlüğünü artırdığına

17. Aşağıdakilerden hangisi metafiziğin varlıkla ilgili temel sorularındandır?

- A) Varlık var mıdır?
- B) Sorumluluk nedir?
- C) Güzel nedir?
- D) Doğru bilgiye ulaşmak mümkün müdür?

18. İnsan zihninden bağımsız bir gerçekliğin var olduğunu savunan, "varlık var mıdır?" sorusunu "vardır" diye cevaplayan felsefi öğretisi aşağıdakilerden hangisidir?

- A) Nihilizm
- B) Realizm
- C) Taoculuk
- D) Septisizm

19. Demokritos'a göre evren atomlardan oluşmuştur. Atomlar birleşerek veya ayrılarak tek tek varlıkların meydana gelmesine sebep olur.

Bu düşünce aşağıdaki felsefe akımlarından hangisine aittir?

- A) Materyalizm
- B) Düalizm
- C) İdealizm
- D) Kritisizm

20. Descartes'e göre birbirinden farklı iki töz vardır. Kendisinden başka hiçbir varlığa ihtiyaç duymayan yaratan töz Tanrı, yaratılan töz ise ruh ve maddedir. Madde yer kaplayan, ruh ise düşünen tözdür. Madde yer kaplar ama düşünmez; ruh ise düşünür ama yer kaplayamaz.

Buna göre Descartes'in varlık konusundaki görüşleri aşağıdakilerden hangisine uygundur?

- A) Varlık maddeden oluşmuştur.
- B) Varlık düşünceden ibarettir.
- C) Varlık sürekli bir oluş halindedir.
- D) Varlık ruh ve maddeden oluşmuştur.

(122) FELSEFE – 2

1. İnsan eylemlerini ve bu eylemlerin dayandığı ilkeleri konu alan, iyi-kötü kavramlarını işleyen felsefe dalı aşağıdakilerden hangisidir?

- A) Bilgi felsefesi
- B) Ahlak felsefesi
- C) Siyaset felsefesi
- D) Varlık felsefesi

2. Aşağıdakilerden hangisi ahlak felsefesinin temel sorularındandır?

- A) Ahlaki eylemin bir amacı var mıdır?
- B) Bilginin kaynağı nedir?
- C) Ruh ölümsüz müdür?
- D) Ortak estetik yargılar var mıdır?

3. • İnsan ahlaki eylemde bulunurken tamamen kendi iradesiyle özgür bir biçimde mi davranır?
• İnsan eylem ve kararlarında iç ve dış faktörlerin etkisi altında mıdır?

Ahlak felsefesinde bu sorular aşağıdakilerden hangisini belirlemeye yöneliktir?

- A) İnsanın özgürlük sorununu
- B) En yüksek iyinin ne olduğunu
- C) Ahlaki eylemin amacını
- D) Evrensel ahlak yasasının varlığını

4. Sokrates'e göre, ahlaki eylemin kaynağı bilgidir. Bilgi bizi doğru eyleme, bilgisizlik ise yanlış eyleme götürür.

Buna göre aşağıdakilerden hangisi Sokrates'in görüşüne uygundur?

- A) İnsan bilgiyi çıkarına kullanmalıdır.
- B) Doğru eylemin ölçütü bilgidir.
- C) Bilgi insanı mutsuzlaştırır.
- D) İnsanlar kuralsız yaşmalıdır.

5. "Kendi sezgine uy ki, hem kendin hem de başkası için iyi olanı yapmış olasin" düşüncesini ahlâk anlayışında savunan ve sezgiciliğin kurucusu olan filozof hangisidir?

- A) J. Bentham
- B) T. Hobbes
- C) H. Bergson
- D) J. Locke

6. I. Hazcılık
II. Anarşizm
III. Egoizm

Verilenlerden hangileri evrensel ahlak yasasının varlığını reddeden yaklaşımlardır?

- A) Yalnız I
- B) I ve II
- C) II ve III
- D) I, II ve III

7. Aşağıdakilerden hangisi, ahlak yasasını tasavvuf düşüncesinde temellendiren düşünürlerden değildir?

- A) Mevlana
- B) Hobbes
- C) Yunus Emre
- D) Hacı Bektaş Veli

1. OTURUM

8. Aşağıdakilerden hangisi siyaset felsefesinin sorularından değildir?
- A) İktidar kaynağını nereden alır?
B) Bireyin temel hakları nelerdir?
C) Meşruiyetin ölçütü nedir?
D) İyi nedir?
9. Max Weber'e göre, kaynağını yazılı hukuk kurallarından aldığı ve bu kuralların yönetilenleri olduğu gibi yönetenleri de bağladığı otorite biçimi aşağıdakilerden hangisidir?
- A) Geleneksel otorite
B) Karizmatik otorite
C) Demokratik otorite
D) Despotizm
10. Aşağıdakilerden hangisi bireyin siyasal haklarındanıdır?
- A) Seçme ve seçilme hakkı
B) Özel mülkiyet hakkı
C) Yaşama hakkı
D) Sağlık hakkı
11. Aşağıdakilerden hangisi karizmatik otoritenin kaynağını oluşturur?
- A) Gelenekler
B) Karizmatik lider
C) Yerleşik inançlar
D) Yazılı hukuk kuralları
12. Sofistlere göre, her şeyin ölçüsü insan olduğundan, bütün insanların üzerinde anlaşabilecekleri tek bir ideal düzen olamaz. Ne kadar insan varsa o kadar ölçü var demektir.
- Buna göre sofistlerin ideal düzen konusundaki görüşleri aşağıdakilerden hangisidir?**
- A) Tüm insanlar ideal düzen konusunda ortak bir fikre ulaşacaklardır.
B) İdeal düzen eşitlik sayesinde gerçekleşecektir.
C) İdeal bir toplum düzeninden söz edilemez.
D) Özgürlük sayesinde ideal düzen gerçekleşecektir.
13. İktidarın gücünün kötüye kullanılmasını önlemek için kuvvetler ayrılığı fikrini savunan Fransız siyaset bilimci aşağıdakilerden hangisidir?
- A) Montesquieu
B) George Orwel
C) Thomas More
D) Sokrates
14. Estetiğin konusu aşağıdakilerden hangisidir?
- A) İyilik
B) Güzellik
C) Yasa
D) Vicdan
15. Aşağıdakilerden hangisi sanatı oyun olarak kabul eden düşünürlerdendir?
- A) Platon
B) Sokrates
C) Schiller
D) Aristoteles
16. Sanat, sanatçının doğada bulunan varlıkları eserlerine yansıtmasıyla ortaya çıkar. Bir sanat eseri aslını en güzel biçimiyle yansıttığı ölçüde güzeldir.
- Bu parçada sanatın oluşumu aşağıdakilerden hangisine bağlanmıştır?**
- A) Gerçekliğin taklit edilmesine
B) Sanatçının yaratıcı hayal gücüne
C) Sanatçının madde ve biçimle oynamasına
D) Sanatçının biricik tek bir eser oluşturmasına
17. Estetik yargılar kişilerin öznel beğenisine dayanır. Kimse kendisinin güzel bulduğunu başkalarının da güzel bulmasını bekleyemez. Oysa bilimsel yargılar bütün insanlar için geçerli olan nesnel yargılardır.
- Buna göre estetik yargıları bilimsel yargılardan ayıran temel özellik aşağıdakilerden hangisidir?**
- A) Nesnel olması
B) Subjektif olması
C) Evrensel olması
D) Mantıksal olması
18. Aşağıdakilerden hangisi din felsefesinin temel kavramlarındanıdır?
- A) İyi
B) Doğruluk
C) Hukuk
D) Vahiy
19. Din konusunda felsefenin yaklaşımı aşağıdakilerden hangisine uygunluk gösterir?
- A) Olayların dini kurallar çerçevesinde yorumlanması
B) İnanılan din kurallarının savunulması
C) Dini konuların rasyonel olarak sorgulanması
D) Belli bir dini temel alarak incelemesi
20. Tanrı'nın varlığı ya da yokluğunun bilinemeyeceğini öne süren yaklaşım aşağıdakilerden hangisidir?
- A) Teizm
B) Deizm
C) Panteizm
D) Agnostisizm

(131) TARİH – 1

1. İnsanlık aşağıdaki dönemlerin hangisinde üretim ekonomisine geçmiştir?

- A) Eski Taş Çağı
B) Orta Taş Çağı
C) Yeni Taş Çağı
D) Kalkolitik Çağı

2. Aşağıdakilerden hangisi tarihe yardımcı bilim dallarından biri değildir?

- A) Heraldik
B) Mitolojik
C) Diplomatik
D) Nüvizmatik

3. Aşağıdaki tarihî kaynaklardan hangisi diğerlerine göre daha objektif bilgiler içerir?

- A) Antlaşma metinleri
B) Seyahatnameler
C) Gazeteler
D) Hatıralar

1. OTURUM

4. Aşağıdakilerden hangisi Türklerin İslamiyet'i kabul ettikten sonra kullandıkları takvimlerden değildir?

- A) Hicri Takvim
B) Rumî Takvim
C) Miladi Takvim
D) 12 Hayvanlı Türk Takvimi

5. Bugünkü Gediz ve Küçük Menderes nehirleri arasında kalan bölgenin İlk Çağ'daki adı aşağıdakilerden hangisidir?

- A) Lidya B) Frigya
C) Kilikya D) Kapadokya

6. Aşağıdaki medeniyetlerden hangisi Anadolu'da kurulmamıştır?

- A) İonyalılar B) Lidyalılar
C) Elamlar D) Hattiler

7. Çin uygarlığının oluşmasında etkili olan kültürler aşağıdakilerin hangisinde birlikte verilmiştir?

- A) Tibet - Rus - Arap
B) Türk - Moğol - Tibet
C) Moğol - Hint - Afgan
D) Türk - Japon - Kore - Arap

8. Aşağıdakilerden hangisi Mezopotamya devletlerindeki toplumsal sınıflardan biri değildir?

- A) Hürler B) Soylular
C) Köleler D) Aristokratlar

9. Firavun II. Ramses Kuzey Suriye'yi ele geçirmek için uzun yıllar aşağıdaki devletlerden hangisiyle mücadele etmiştir?

- A) Bizans B) Sümer
C) Babil D) Hitit

10. Aşağıdaki şehirlerden hangisi Fenikeliler tarafından kurulmamıştır?

- A) Biblos B) Sayda
C) Sard D) Sur

11. Aşağıdaki nehirlerden hangisi Hinduizm inancına göre kutsal sayılır?

- A) Nil B) İndus
C) Ganj D) Amazon

12. Roma toplumunu oluşturan sınıflar şunlardır:

- **Patriciler:** Romalı soylulardan oluşan bir sınıftır. Sosyal yaşam açısından diğer sınıflara göre daha rahat yaşayan bu sınıftaki insanlar; mülkiyet edinme, devlet memuru ve asker olabilme haklarına sahiptiler.
- **Plepler:** Hiçbir siyasi hakkı olmayan bu sınıftakiler daha çok hayvancılık, tarım ve ticaret gibi işlerle uğraşmışlardır.
- **Köleler:** Hiçbir hakları olmayan bu sınıftakiler soyluların evlerinde hizmetçi, tarlalarında da işçi olarak çalışmışlardır.

Verilen bilgilere göre aşağıdakilerden hangisi Roma toplum yapısından çıkarılabilecek bir sonuç değildir?

- A) Sınıfların hukukları farklıdır.
B) Eşitliğe dayalı bir sosyal düzen vardır.
C) Köleler mülkiyet hakkından mahrumdurlar.
D) Plepler Roma toplumunun üreticisidirler.

13. Aşağıdakilerden hangisi Kavimler Göçü'nün Avrupa'da meydana getirdiği siyasi sonuçlarından biri değildir?

- A) Barbar kavimler arasında Hristiyanlığın yayılması
B) Feodalite rejiminin ortaya çıkmasına zemin hazırlaması
C) Avrupa'ya yerleşen Türklerin burada çeşitli devletler kurması
D) Günümüz Avrupa devletlerinin birçoğunun temellerinin atılması

14. Avrupa Hun hükümdarı Attila Balkan Seferleri'ni hangi devlet üzerine düzenlemiştir?

- A) Batı Roma B) Doğu Roma
C) Sasani D) Asya Hun

15. Aşağıdaki destanlardan hangisi Kırgızlara aittir?

- A) Göç B) Türeyiş
C) Manas D) Alp Er Tunga

16. Kutluk Devleti hükümdarı Kapgan Kağan, iktidarda bulunduğu süre içinde bütün Türk boylarını Kök Türk egemenliği altında toplamaya çalışmıştır.

Kapgan Kağan, izlediği bu siyasetle aşağıdakilerden hangisini amaçlamış olabilir?

- A) Çin'i ele geçirmek
B) İpek Yolu'na hâkim olmak
C) Bizans'ı vergiye bağlamak
D) Türk siyasi birliğini sağlamak

17. Hazarlar, hangi yönleriyle diğer Türk topluluklarından ayrılırlar?

- A) Bizans ile ilişki kurmalarıyla
B) Karadeniz kıyısında yaşama-larıyla
C) Musevilik dinini seçmeleriyle
D) Ruslar tarafından yıkılmalarıyla

18. Tarihte kendi adına ilk parayı bastıran Baga Tarkan aşağıdaki Türk devletlerinden hangisinin hükümdarıdır?

- A) Türgişler B) Kimekler
C) Sabirler D) Köktürkler

19. "Uygurlar, - - - - adını verdikleri kentler kurarak sanat ve ticaretle uğraşmışlardır."

Verilen cümlede boş bırakılan yere aşağıdakilerden hangisi yazılmalıdır?

- A) Ordu B) Balık
C) Amid D) Kurgan

20. Aşağıdakilerden hangisi ilk Türk devletlerinde görülen ülkenin hanedan üyelerinin ortak malı sayılması anlayışının bir sonucudur?

- A) Türk devletlerinin uzun yıllar hüküm sürmesi
B) Kendi alfabelerini oluşturmaları
C) Göçebe yaşam sürmeleri
D) Taht kavgaları

1. OTURUM

1. İslamiyetten önce Kuzey Afrika ülkelerinden olan Mısır, Libya ve Tunus'u işgal eden devlet aşağıdakilerden hangisidir?

- A) Sasani Devleti
B) Habeşistan Krallığı
C) Bizans İmparatorluğu
D) Batı Roma İmparatorluğu

2. Müslüman Arapların "Endülüs" ismini verdiği ülkenin bugünkü ismi aşağıdakilerden hangisidir?

- A) İspanya B) İngiltere
C) İsviçre D) İtalya

3. İslamiyet Arap Yarımadası'nın hangi bölgesinde ortaya çıkmıştır?

- A) Hicaz B) Necit
C) Yemen D) Hadramut

4. Aşağıdakilerden hangisi Bedir Savaşı'nın sonuçlarından biri değildir?

- A) İslam tarihinin ilk askerî başarısı olması
B) Şam ticaret yolunun güvenliğinin sağlanması
C) Müslümanların bir güç olarak ortaya çıkması
D) Ekonomik yönden Müslümanların güçlenmesi

5. Yalancı peygamberlerle mücadele eden halife, aşağıdakilerden hangisidir?

- A) Hz. Ali B) Hz. Ömer
C) Hz. Osman D) Hz. Ebu Bekir

6. İslam tarihinde meydana gelen aşağıdaki savaşlardan hangisi İran'ın fethi amacıyla yapılmıştır?

- A) Sıffin Savaşı
B) Köprü Savaşı
C) Celula Savaşı
D) Nihavent Savaşı

7. Hz. Ömer Dönemi'nde fetihler hız kazanmış; Mısır, Suriye, Irak ve İran fethedilmiştir.

Bu durumun İslam Devleti'nde hangi bakımdan değişikliğe neden olduğu iddia edilemez?

- A) Ekonomik B) Kültürel
C) Sosyal D) Dinî

8. Talas Savaşı aşağıdaki devletlerden hangileri arasında meydana gelmiştir?

- A) Emevi - Çin
B) Abbasi - Çin
C) Gazneli - Karahanlı
D) Büyük Selçuklu - Bizans

9. Aşağıdakilerden hangisi İslamiyet'in Türkler üzerinde meydana getirdiği değişime örnektir?

- A) Hukuk sisteminde şer'i kuralların yer alması
B) Devletin hanedan üyelerinin ortak malı sayılması
C) Hükümdarın yönetim yetkisini tanrıdan aldığına inanılması
D) Orduda ve Türkmenler arasında Türkçe konuşulup yazılması

10. Büyük Selçuklu Devleti'ni kuranlar aşağıdaki Türk topluluklarından hangisidir?

- A) Avarlar B) Gurlular
C) Oğuzlar D) Hazarlar

11. Aşağıdakilerden hangisi Türklerin İslamiyet'i benimsemelerinin sebeplerinden biri olamaz?

- A) Ahiret inancının var olması
B) Tek tanrı inancının bulunması
C) Yönetimde dinî kuralların etkili olması
D) Türk ahlaki değerlerinin İslam ahlak değerlerine benzemesi

12. • Batı kaynaklarında "Alfarabus" adıyla anılır.
• Mantık, felsefe, matematik, tıp ve musiki alanlarında önemli eserler vermiştir.
• Aristo'nun eserlerini inceleyip yeni yorumlar getirdiği için ikinci öğretmen anlamına gelen "Muallim-i Sani" unvanı verilmiştir.

Hakkında bilgi verilen bilim insanı, aşağıdakilerden hangisidir?

- A) Farabi B) Biruni
C) Taberi D) Harezmi

13. Büyük Selçuklu Devleti'nde bulunan aşağıdaki divanlardan hangisinin başında bulunan kişiye "Tuğrai" denir?

- A) Divan-ı Arz
B) Divan-ı İnşa
C) Divan-ı İstifa
D) Divan-ı Mezalim

14. "Bundan gayri divanda, dergâhta, mecliste ve meydanda Türkçeden başka dil kullanılmayacaktır." diyerek Türkçeyi devlet dili hâline getiren Türkmen beyi aşağıdakilerden hangisidir?

- A) Danişment Ahmet Gazi
B) Dilmaçoğlu Mehmet Bey
C) Karamanoğlu Mehmet Bey
D) Kutalmışoğlu Süleyman Şah

15. Türkiye Selçuklu Devleti'nde ticaretle uğraşanlar arasında sıkı bir iş birliği ve dayanışma olduğunun göstergesi aşağıdakilerden hangisidir?

- A) Atabeylik uygulaması
B) İmarethaneler
C) İktâ Sistemi
D) Ahi Teşkilatı

16. Türkleri denizlerle kaynaştıran ilk öncü Türk beyi aşağıdakilerden hangisidir?

- A) Çağrı Bey B) Çaka Bey
C) Çubuk Bey D) Sökmen Bey

1. OTURUM

(133) TARİH – 3

17. Türkiye Selçuklu hükümdarı I. Kılıç Arslan'ın, devlet merkezini İznik'ten Konya'ya taşımaya sebep olan gelişme aşağıdaki-lerden hangisidir?

- A) I. Haçlı Seferi
- B) II. Haçlı Seferi
- C) Köseadağ Savaşı
- D) Koyunhisar Savaşı

18. Aşağıdakilerden hangileri Türkiye Selçuklularının "tersane" şehir-lerindedir?

- A) Sinop - Alaiye
- B) Trabzon - Kırım
- C) Sinop - Trabzon
- D) İzmir - İskenderun

19. • Anadolu'da Moğol baskısı arttı.
• Devlet, Moğolların himayesine girdi.
• Türkiye Selçuklu Devleti iyice zayıfladı.
• Yönetimde Türkiye Selçuklu sul-tanlarının etkisi azaldı.

Verilen bilgiler, aşağıdaki sa-vaşlardan hangisinin sonuçları arasında yer alır?

- A) Pasinler
- B) Köseadağ
- C) Malazgirt
- D) Miryokefalon

20. Türkiye Selçuklu Devleti Dönemi'nde görülen aşağıda-ki gelişmelerden hangisinin, Anadolu'nun Türk yurdu olma-sına katkı sağladığı savunula-bilir?

- A) II. Kılıç Arslan'ın ülke topraklarını oğulları arasında paylaşması
- B) Topluma hizmet amacıyla dinî, sosyal ve ticari nitelikte mimari eserlerin yaptırılması
- C) II. Rükneddin Süleyman Şah'ın Erzurum'u alarak Saltuklulara son vermesi
- D) Devlette bilim dili olarak Arapça, edebiyat dili olarak da Farsçanın kullanılması

1. Osman Bey 1281 yılında aşağıdakilerden hangisinin ölümü sonrasında Kayı boyunun başına geçmiştir?

- A) Orhan Bey
- B) Ertuğrul Bey
- C) Şeyh Edebali
- D) III. Alaeddin Keykubat

2. I. Çirmen Savaşı
II. Niğbolu Savaşı
III. Sırpsındığı Savaşı
IV. Ankara Savaşı

Yukarıdaki savaşların hangi-leri Osmanlı padişahı I. Murat Dönemi siyasi olaylarındandır?

- A) Yalnız II
- B) I ve II
- C) I ve III
- D) II, III ve IV

3. "Koyunhisar Savaşı" denilince akla ilk, aşağıdakilerden hangi-si gelmelidir?

- A) İlk Osmanlı - Bizans savaşı olduğu
- B) Bursa'nın fethini gerçekleştirdiği
- C) Balkanlara yerleşmenin önünü açtığı
- D) Roma İmparatorluğu'nun ikiye bölünmesine neden olduğu

4. Eflak ve Boğdan beylerine ve-rilen unvan aşağıdakilerden hangisidir?

- A) Tekfur
- B) Despot
- C) Şövalye
- D) Voyvoda

5. Tımar sisteminin bozulması Osmanlı Devleti'ni aşağıdaki alanların hangisinde olumsuz etkilememiştir?

- A) Ekonomik
- B) Askerî
- C) Siyasi
- D) Dinî

6. Osmanlı Devleti'nde sancaklara gönderilen şehzadelere yardım-cı olan tecrübeli ve bilgili kişile-re ne ad verilir?

- A) Kadı
- B) Lala
- C) Subaşı
- D) Nişancı

7. İslam halifesi, Osmanlı padişahı Yıldırım Bayezit'e "Sultaniiklimirum" (Anadolunun Sultanı) unvanını aşağıdaki hangi başarısından dolayı vermiştir?

- A) İstanbul'u fethetmek için Anadolu Hisarı'nı yaptırması
- B) İstanbul'u kuşatan ilk Osmanlı padişahı olması
- C) Niğbolu'da büyük bir Haçlı ordusunu yenmesi
- D) Anadolu Türk birliğini sağlamaya çalışması

8. Fetret Devri'ne son veren Osmanlı padişahı aşağıdakiler-den hangisidir?

- A) II. Murat
- B) II. Mehmet
- C) Mehmet Çelebi
- D) Yıldırım Bayezit

9. Osmanlılarda herhangi bir es-nafın dükkân açma hakkına ne ad verilir?

- A) Gedik
- B) Dirlik
- C) Ağnam
- D) İltizam

10. Aşağıdakilerden hangisi Osmanlıların İstanbul'u fethet-mek için yaptığı hazırlıklar ara-sında sayılamaz?

- A) Rumeli Hisarı'nın inşa edilmesi
- B) Haliç'in girişine kalın zincirlerin çekilmesi
- C) Aşırtma güllerle atacak havan toplarının yapılması
- D) Surları aşmak için yürüyen te-kerlekli kulelerin yapılması

11. Aşağıdakilerden hangisi Osmanlı Devleti'nin dirlik sis-temini uygulamakla elde ettiği kazanımlardan biri değildir?

- A) Ülkenin bayındır hâle gelmesini sağlamak
- B) Ülkede basılmış yayınları çoğaltmak
- C) Devlet hazinesinin maaş yükünü azaltmak
- D) Savaşa hazır bir ordu oluşturmak

1. OTURUM

12. "Osmanlılarda ilk para - - - - tarafından bastırılmıştır."

Verilen cümlelerin doğru olabilmesi için boş bırakılan yere aşağıdakilerden hangisi yazılmalıdır?

- A) II. Murat
- B) Orhan Bey
- C) Osman Bey
- D) Mehmet Çelebi

13. Aşağıdaki bilgilerden hangisi Osmanlı'daki "Reaya" sınıfı ile ilgili değildir?

- A) Vergiden muaftırlar.
- B) Yönetim görevleri yoktur.
- C) Farklı dil, din ve mezhepten insanlar barındırır.
- D) Geçimlerini tarım, ticaret ve sanayi alanlarında üretim yaparak sağlarlar.

14. Reform hareketleri sonucunda İngiltere'de ortaya çıkan mezhep aşağıdakilerden hangisidir?

- A) Protestanlık
- B) Anglikanizm
- C) Kalvenizm
- D) Ortodoksluk

- 15. • Nasuh Paşa Antlaşması
- Amasya Antlaşması
- Serav Antlaşması

Verilen antlaşmalar için söylebilecek ortak özellik aşağıdakilerden hangisidir?

- A) İran ile imzalanmışlardır.
- B) Kanuni Dönemi'nde yapılmışlardır.
- C) Osmanlı - Avusturya sınırlarını belirlemişlerdir.
- D) Osmanlı - Rus savaşlarını sonlandırmışlardır.

16. Osmanlı Devleti'nin 17. yüzyılda kötüye gidişinin nedenleri ve bu kötüye gidişin durdurulabilmesi için alınabilecek tedbirlerin neler olabileceğine dair Koçi Bey'e rapor hazırlatan Osmanlı padişahı aşağıdakilerden hangisidir?

- A) IV. Mustafa
- B) IV. Mehmet
- C) IV. Murat
- D) II. Süleyman

17. Osmanlı Devleti'ndeki "Enderun" mektebinin kuruluşundaki temel amaç aşağıdakilerden hangisidir?

- A) Din adamı yetiştirmek
- B) Padişaha bağlı, onu koruyacak asker yetiştirmek
- C) Şehzadeleri devlet yönetimi konusunda eğitmek
- D) Devletin yönetim ve askerlik görevlerini yerine getirecek kadroları yetiştirmek

18. Aşağıdakilerden hangisi, II. Viyana Kuşatması'ndan sonra kurulan "Kutsal İttifak" içerisinde yer alan devletlerden biri değildir?

- A) Fransa
- B) Avusturya
- C) Venedik
- D) Malta

19. 17. yüzyılda Avrupa devletleri arasında yaşanan din merkezli savaşlar aşağıdakilerden hangisidir?

- A) Otuz Yıl Savaşları
- B) Balkan Savaşları
- C) Yüzyıl Savaşları
- D) Haçlı Savaşları

20. Rusya, Osmanlı Devleti ile imzaladığı aşağıdaki antlaşmalardan hangisiyle Karadeniz'e inme politikasında ilk adımı atmıştır?

- A) Vasvar Antlaşması
- B) İstanbul Antlaşması
- C) Karlofça Antlaşması
- D) Kasr-ı Şirin Antlaşması

(134) TARİH – 4

1. Avrupa'da Rönesans ve Reform hareketleri ile başlayan pozitif ve özgür düşüncenin etkisiyle aşağıdakilerden hangisi yıkılmıştır?

- A) Meşrutiyet
- B) Panslavizm
- C) Merkantilizm
- D) Skolastik düşünce

2. Aşağıdakilerden hangisi 1739 tarihli Belgrat Antlaşması'nın özelliklerinden biri değildir?

- A) Karadeniz'in Osmanlıya ait olduğunu belirten en son antlaşma olması
- B) Osmanlı'nın Gerileme Dönemi'nde imzaladığı en kazançlı antlaşma olması
- C) Kırım Hanlığı'nın bağımsızlığını kazanması
- D) Belgrat'ın geri alınmasını sağlaması

3. Fransız İhtilali'nin toplumlar üzerindeki en belirgin etkisi aşağıdakilerden hangisidir?

- A) Meşrutiyetçilik
- B) Milliyetçilik
- C) Sömürgecilik
- D) Devletçilik

4. Fransız İhtilali ile sona eren çağ aşağıdakilerden hangisidir?

- A) İlk Çağ
- B) Orta Çağ
- C) Yeni Çağ
- D) Yakın Çağ

5. Avrupa'da XVIII. yüzyılda görülen savaşlar aşağıdakilerden hangisidir?

- A) Veraset Savaşları
- B) Otuz Yıl Savaşları
- C) Yüzyıl Savaşları
- D) Haçlı Savaşları

6. Aşağıdakilerin hangisinde ilk defa "Şark Meselesi" deyimi kullanılmıştır?

- A) Londra Konferansı
- B) Viyana Kongresi
- C) Lozan Konferansı
- D) Colombo Konferansı

7. Müsadere usulünü kaldıran Osmanlı padişahı aşağıdakilerden hangisidir?

- A) III. Selim
- B) Abdülaziz
- C) IV. Murat
- D) II. Mahmut

1. OTURUM

(135) TARİH – 5

8. Amerika Kıtası'nı 1492 yılında bularak kıtaya adını veren Amerigo Vespucci aşağıdaki hangi ülkenin denizcisidir?

- A) Avusturya B) Fransa
C) İtalya D) Rusya

9. 1829 Edirne Antlaşması'yla bağımsızlığını kazanan devlet aşağıdakilerden hangisidir?

- A) Karadağ B) Yunanistan
C) Bulgaristan D) Arnavutluk

10. Osmanlı Devleti'ndeki azınlık ayaklanmalarının çıkmasında, Avrupa'da yaşanan aşağıdaki hangi olayın etkisi olduğu savunulabilir?

- A) Rönesans hareketlerinin
B) Reform hareketlerinin
C) Sanayi İnkılabı'nın
D) Fransız İhtilali'nin

11. Yurt dışına çıkışlarda pasaport uygulamasını başlatan Osmanlı padişahı aşağıdakilerden hangisidir?

- A) II. Osman B) III. Selim
C) II. Mahmut D) II. Abdülhamit

12. Kırım Savaşı sonunda imzalanan antlaşma aşağıdakilerden hangisidir?

- A) Berlin B) Paris
C) Edirne D) Hünkâr İskelesi

13. Mora'nın elden çıkması Osmanlı Devleti'nde aşağıdaki hangi sorunun ortaya çıkmasına sebep olmuştur?

- A) Şark Sorunu
B) Azınlıklar Sorunu
C) Kutsal Yerler Sorunu
D) Mehmet Ali Paşa Sorunu

14. Milliyetçilik hareketleri sonucunda Osmanlı Devleti'nde imtiyaz elde eden ilk toplum aşağıdakilerden hangisidir?

- A) Arnavutlar B) Sırp
C) Yunanlılar D) Bulgarlar

15. Avrupa'da yeniden düzenlemek anlamına gelen, 1815'ten 1827'ye kadar süren dönem aşağıdakilerden hangisiyle adlandırılmıştır?

- A) Restorasyon Dönemi
B) Aydınlanma Dönemi
C) Fetret Devri
D) Lale Devri

16. Osmanlı Devleti Dömeke Meydan Savaşı'nı aşağıdaki devletlerden hangisiyle yapmıştır?

- A) İran B) Ermenistan
C) Yunanistan D) Bulgaristan

17. Avrupa gezisine çıkan ilk Osmanlı padişahı aşağıdakilerden hangisidir?

- A) Abdülaziz B) Abdülmecit
C) Vahdettin D) II. Abdülhamit

18. Osmanlı Devleti'nde çıkarılan ilk kadın dergisi aşağıdakilerden hangisidir?

- A) Demet
B) Volkan
C) Şükufeza
D) Terakki-i Muhadderat

19. İstanbul Üniversitesi'nin temelini aşağıdaki okullardan hangisi oluşturmuştur?

- A) Darülfünun
B) Darülmârif
C) Mekteb-i Mülkiye
D) Mühendishane-i Bahri-i Hümayun

20. I. Dünya Savaşı sonunda imzalanan aşağıdaki hangi antlaşma ile Macaristan'ın bir kısım toprakları Yugoslavya, Romanya ve Çekoslovakya'ya verilmiştir?

- A) Versay B) Sen Jermen
C) Nöyyi D) Triyanon

1. İlk Türkler aşağıdaki yerlerden hangisini "kutlu vatan toprakları" olarak görmüşlerdir?

- A) Ötüken ve çevresini
B) Kafkaslar ve Ural Dağlarını
C) Horasan ve Harezm bölgesini
D) Mezopotamya ve Kuzey Suriye'yi

2. İlk Türk devletlerinde konargöçer bir yaşamın sürdürülmesi aşağıdakilerden hangisi üzerinde etkili olmamıştır?

- A) Şehir mimarisinin gelişmemesinde
B) Tek tanrı anlayışının benimsenmesinde
C) Ekonominin hayvancılığa dayanmasında
D) Küçük el sanatlarının önem kazanmasında

3. Aşağıdaki Türk topluluklarından hangisi Anadolu üzerine askerî akınlarda bulunmamıştır?

- A) Sibirler
B) İskitler
C) Kök Türkler
D) Avrupa Hunları

4. Avrupa Hun hükümdarı Attila, Balkan Seferleri'ni hangi devlet üzerine düzenlemiştir?

- A) Bizans B) Sasani
C) Ak Hun D) Batı Roma

5. II. Kök Türk Devleti'ne "Kutluk" isminin de verilmiş olmasının nedeni aşağıdakilerden hangisidir?

- A) Devletin Ötüken'de bulunması
B) Hükümdarların kut anlayışına bağlı olması
C) Hükümdarlarının şamanlar tarafından kutsanması
D) Devletin Kutluk İleriş Kağan tarafından kurulmuş olması

1. OTURUM

6. • Bizans baskı altında tutulacak
• Germen kavimlerine karşı Batı Roma İmparatorluğu ile iş birliği yapılacak

Yukarıda kısaca özetlenen Avrupa Hun Devleti'nin dış politikasını belirleyen Hun hükümdarı kimdir?

- A) Mete B) Uldız
C) Attila D) Balamir

7. **Uygur Devleti'nin kurucusu aşağıdakilerden hangisidir?**

- A) Bilge Kağan
B) Mukan Kağan
C) Moyen – Çur Kağan
D) Kutluk Bilge Kül Kağan

8. **Yaklaşık 11. yüzyılın başlarında aşağıdaki toplumlardan hangisinin ülkesi "Türkiye" diye anılmıştır?**

- A) Karluklar
B) Bulgarlar
C) Macarlar
D) Peçenekler

9. **Türk kavimlerinden Kıpçakların X. yüzyılda Oğuzlarla yaptıkları savaşlar aşağıdakilerden hangisinin konusunu oluşturur?**

- A) Manas Destanı
B) Türeyiş Efsanesi
C) Alp Er Tunga Sagusu
D) Dede Korkut Hikâyeleri

10. **Aşağıdakilerden hangisi bir Türk topluluğu değildir?**

- A) Vandallar B) Kumanlar
C) Avarlar D) Uzlar

11. **Eski Türkler, ailelerin birleşmesinden meydana gelen sülaleye ne ad vermişlerdir?**

- A) Boy B) Oğuş
C) Urug D) Bodun

12. **Rusların Karadeniz'e inmelerini engelleyen Türk boyu aşağıdakilerden hangisidir?**

- A) Avarlar B) Türgişler
C) Karluklar D) Peçenekler

13. **Türk adı Orhun Anıtları'nda hangi şekilde geçmektedir?**

- A) Miğfer B) Türuk
C) Törelı D) Türemek

14. **Avrupa Hunlarından sonra Anadolu'ya akınlar yapan ikinci Türk kavmi aşağıdakilerden hangisidir?**

- A) Sabarlar B) Avarlar
C) Kırgızlar D) Karluklar

15. **Eski Türklerin yağmur yağdırmak, rüzgar estirmek için sihrine başvurdukları ve kutsal saydıkları "Yada Taşı" aşağıdaki hangi inançlarıyla örtüşür?**

- A) Mani dini
B) Atalar kültü
C) Gök Tanrı inancı
D) Tabiat kuvvetlerine inanma

16. **Aşağıdaki terimlerden hangisi eski Türklerde "ordu komutanı" için kullanılırdı?**

- A) Emçi B) Bitikçi
C) Tudun D) Apa tarkan

17. **Orhun Yazıtları, Kutluk Devleti'ndeki bazı yöneticiler adına dikilmişlerdir.**

Aşağıdakilerden hangisi bu yöneticilerden biri değildir?

- A) Kül Tigin
B) Tonyukuk
C) Bumın Kağan
D) Bilge Kağan

18. **Emeviler, aşağıdaki devlet adamlarından hangisinin ölümü sonrasında Maveraünnehir'deki nüfuzlarını kaybetmeye başlamışlardır?**

- A) Müslim bin Said
B) Kuteybe bin Müslim
C) Ubeydullah bin Ziyad
D) Süleyman bin Abdülmelik

19. **Türkler ana yurtlarından hangi coğrafi bölgelere göç etmemişlerdir?**

- A) Mezopotamya
B) Güney Afrika
C) Doğu Avrupa
D) Sibirya

20. **Türk tarihinde bilinen ilk yazılı uluslararası antlaşma, aşağıdaki devletlerden hangisi ile imzalanmıştır?**

- A) Batı Roma İmparatorluğu
B) Bizans İmparatorluğu
C) Moğol İmparatorluğu
D) Çin İmparatorluğu

(136) TARİH – 6

1. Emeviler Dönemi'nde Türklerle Araplar arasında iyi ilişkiler kurulamamıştır. Emevilerin başta Türkler olmak üzere diğer milletleri "mevali" yani köle olarak görmeleri ve adaletten uzak bir yönetim sergilemeleri Türkler arasında Emevilere karşı büyük bir nefret uyandırmıştır.

Verilen bu durumun aşağıdakilerden hangisine neden olduğu söylenebilir?

- A) Türklerin İslamiyet'i tanımalarını geciktirmiştir.
B) Türkler arasında İslamiyet hızla yayılmıştır.
C) İslam Devleti'nde Türkler "avasım" adı verilen sınır şehirlerine yerleştirilmişlerdir.
D) Talas Savaşı'nda Türkler, Müslüman Araplara karşı düşmanca bir tutum takınmışlardır.

2. **İslam tarihinde, aşağıdaki hangi yıllar arası "Hülafa-i Raşidin Dönemi" olarak adlandırılır?**

- A) 571 - 622
B) 632 - 661
C) 1092 - 1118
D) 1402 - 1413

1. OTURUM

3. Batılı ülkelerde bir kişi için "Türk olmuş" denildiği zaman aslında o kişi için aşağıdakilerden hangisi söylenmek istenmektedir?
- A) Hun olmuş
B) Barbar olmuş
C) Osmanlı olmuş
D) Müslüman olmuş
4. Aşağıdaki Tolunoğulları hükümdarlarından hangisinin zamanında Bedevilerden oluşan "Muhtare" adlı özel bir muhafız birliği kurulmuştur?
- A) Harun
B) Şeyban
C) Humaraveyh
D) Tolunoğlu Ahmet
5. Aşağıdakilerden hangisi Tuğrul Bey Dönemi ile ilgili bir gelişme değildir?
- A) Devlet merkezinin Nişabur'dan Rey'e taşınması
B) İstanbul'un ilk kez Selçuklular tarafından kuşatılması
C) Musa Yabgu'nun oğlu Hasan Bey'in Bizanslılarca şehit edilmesi
D) Van Gölü'nden Trabzon'a kadar olan alanda Selçuklu hâkimiyetinin sağlanması
6. Türklerin Hindistan'a yerleşmeleri aşağıdaki Türk devletlerinden hangisi zamanında başlamıştır?
- A) Gazneliler
B) Karahanlılar
C) Harzemşahlar
D) Büyük Selçuklular
7. Orta Asya'da kurulan ilk Müslüman Türk devleti, aşağıdakilerden hangisidir?
- A) İhşidiler B) Karluklar
C) Gazneliler D) Karahanlılar
8. Dandanakan Savaşı aşağıdaki devletlerden hangileri arasında yapılmıştır?
- A) Harzemşah - Büyük Selçuklu
B) Büyük Selçuklu - Gazneli
C) Samanoğulları - Karahanlı
D) Karahanlı - Gazneli
9. Aşağıdaki saray görevlilerinden hangisi ilk Müslüman Türk devletlerinde bulunmaz?
- A) İlbaşı B) Tudun
C) Taştardar D) Serhenk
10. Ünlü şair Firdevsi, yazdığı "Şehname" adlı eserini aşağıdaki Türk hükümdarlarından hangisine sunmuştur?
- A) Sultan Alparslan
B) Satuk Buğra Han
C) Gazneli Mahmut
D) Celaledin Harzemşah
11. Türk - İslam mimarisinde görülen;
- I. Darüşşifalar
II. Kervansaraylar
III. Medreseler
- gibi yapılardan hangileri, ülkede ticareti geliştirme amacıyla yapılmıştır?
- A) Yalnız I B) Yalnız II
C) Yalnız III D) I, II ve III
12. Ebu Muhammed Ubeydullah aşağıdaki devletlerden hangisini yıkarak Fâtîmî Devleti'ni kurmuştur?
- A) Zengiler B) Börililer
C) Aglebîler D) Salgurlular
13. Memlûk - Osmanlı ilişkileri ilk defa hangi Osmanlı padişahı döneminde bozulmuştur?
- A) Kanuni Sultan Süleyman
B) Fatih Sultan Mehmet
C) Yavuz Sultan Selim
D) Yıldırım Bayezit
14. Aşağıdaki devletlerden hangisi kurulduğu coğrafya bakımından diğerlerinden farklıdır?
- A) İhşidiler B) Tolunoğulları
C) Eyyûbiler D) Harzemşahlar
15. Cengiz Han'ın ölümünden sonra oğulları tarafından kurulan devletlerden hangisi Türkiye Tarihi üzerinde doğrudan etkili olmuştur?
- A) Altın Orda Devleti
B) Çağatay Hanlığı
C) Kubilay Hanlığı
D) İlhanlı Devleti
16. Aşağıdaki devletlerden hangisi Yeni Çağ'da da hüküm sürmüştür?
- A) Babürlülük B) Fatımîler
C) Eyyûbiler D) İlhanlılar
17. Mısır'daki "Kahire Surları" aşağıdaki devletlerden hangisinin döneminde inşa edilmiştir?
- A) Osmanlılar B) Karahanlılar
C) Eyyûbiler D) Fatımîler
18. İlhanlı Devleti'nin kurucusu aşağıdakilerden hangisidir?
- A) Cengiz Han B) Mete Han
C) Hülagü D) Cuci
19. Ünlü musiki bilgini Abdülkadir Meragî'nin Timur hükümdarı Şahruh adına yazdığı eseri aşağıdakilerden hangisidir?
- A) Câmiü'l - Elhân
B) Gül ve Nevruz
C) Sazlar Münazarası
D) Risâletü'l - Fethiyye
20. Moğollarla ilgili aşağıda verilen bilgilerden hangisi yanlıştır?
- A) Adalet işlerine "Yargıcı" denilen hâkimler bakardı.
B) Moğollarda en önemli devlet organı Kurultay'dır.
C) Devlet, Cengiz Yasalarına göre yönetilirdi.
D) Aileye "köbegün" adını vermişlerdir.

1. OTURUM

(141) T.C. İNK. TAR. VE ATA. – 1

1. Aşağıdakilerden hangisi Üçlü İtilaf Devletleri'nden değildir?

- A) Rusya B) Fransa
C) Almanya D) İngiltere

2. Paris Barış Konferansı'nda Yunanlılar, sahte belgeler sunarak Ege Bölgesi'nde yaşayan halkın çoğunluğunun Rumlardan oluştuğunu ileri sürmüş, bütün Ege Adaları'nın, Trakya'nın ve Batı Anadolu'nun kendilerine verilmesini istemiştir.

Buna göre Yunanlılar aşağıdakilerden hangisinin maddelerini hayata geçirmek istemişlerdir?

- A) Wilson İlkeleri
B) Bristol Raporu
C) Petrograd Protokolü
D) Mondros Ateşkes Antlaşması

3. Aşağıdakilerden hangisi Kanunuesasi'nin getirdiği yeniliklerden değildir?

- A) Kişi özgürlüğü ve dokunulmazlığı
B) Mahkemelerin bağımsız ve açık olması
C) Halkın yönetime katılma hakkını kazanması
D) Yürütme ve yasama gücünün halka verilmesi

4. Osmanlı Devleti I. Dünya Savaşı'nın aşağıdaki cephelerinden hangisinde Orta Asya'daki soydaşlarımızla bağlantı sağlamak, İran ve Irak'taki petrol kaynaklarını Ruslara karşı korumak amacıyla savaşmıştır?

- A) Galiçya B) Romanya
C) Kafkasya D) Çanakkale

5. Balkan Savaşları sonunda Osmanlı Devleti'nden ayrılarak bağımsızlığını ilan eden devlet aşağıdakilerden hangisidir?

- A) Makedonya
B) Arnavutluk
C) Bulgaristan
D) Romanya

6. Aşağıdakilerden hangisi millî varlığa düşman cemiyetlerden biri değildir?

- A) Sulh ve Selameti Osmaniye Cemiyeti
B) Hürriyet ve İtilaf Fırkası
C) Redd-i İlhak Cemiyeti
D) Teali İslam Cemiyeti

7. • İşgaller protesto edilecek.
• İşgalleri protesto etmek için mitingler düzenlenecek.
• Mitingler sırasında Hristiyan halka karşı bir saldırı ve düşmanlık yapılmayacak.

Mustafa Kemal'in Havza Genelgesi'nde değindiği bu kararlarla aşağıdakilerden hangisini amaçladığı savunulabilir?

- A) Saltanatı kaldırmayı
B) Düzenli orduyu kurmayı
C) Cumhuriyeti ilan etmeyi
D) Millî bilinci uyandırmayı

8. Millî Mücadele Dönemi'nde millî güçler aşağıdakilerin hangisinde birleştirilmiştir?

- A) Sivas Kongresi
B) Havza Genelgesi
C) Erzurum Kongresi
D) Misakımillî kararlarında

9. Ermeni Sorunu aşağıdaki hangi antlaşma ile uluslararası bir sorun hâline gelmiştir?

- A) Sevr B) Berlin
C) Ankara D) Moskova

10. Temsil Heyetinin varlığı aşağıdaki hangi gelişme ile sona ermiştir?

- A) Büyük Millet Meclisinin açılması
B) Tekâlif-i Milliye Emirlerinin yayımlanması
C) İstanbul'un İtilaf Devletleri'nce işgal edilmesi
D) Son Osmanlı Mebusan Meclisinin kapatılması

11. 19. yüzyılda Selanik'te Türkler, Bulgarlar, Rumlar, Yahudiler ve Ermeniler bir arada yaşamaktadırlar.

Bu bilgiye göre Mustafa Kemal'in doğduğu dönemdeki Selanik şehri için aşağıdakilerden hangisi söylenebilir?

- A) Osmanlı'nın Balkan topraklarındaki bir şehridir.
B) Osmanlı'nın Avrupa'ya açılan kapısıdır.
C) Osmanlı'nın ağır sanayisi bu kenttedir.
D) Zengin bir kültürel yapıya sahiptir.

12. Mehmet Akif Ersoy yazdığı İstiklal Marşı'nı aşağıdakilerden hangisine ithaf etmiştir?

- A) Türk milletine
B) Öğretmenlere
C) Türk ordusuna
D) Türk gençliğine

13. İtalyanların, Anadolu'da işgal ettiği topraklardan tamamen çekilmeleri aşağıdaki savaşların hangisinin sonrasına rastlar?

- A) Sakarya B) I. İnönü
C) II. İnönü D) Dumlupınar

14. Millet iradesine dayalı bir devletin kurulacağını ilk işaretleri aşağıdakilerin hangisinde verilmiştir?

- A) Osmanlı Mebusan Meclisinin son toplantısında
B) Amasya Görüşmelerinde
C) Amasya Genelgesi'nde
D) Erzurum Kongresi'nde

15. Aşağıdakilerden hangisi Ankara Antlaşması'nın sonuçlarından biri değildir?

- A) Güney Cephesi'nin kapanması
B) İtilaf Devletleri bloğunun parçalanması
C) Sovyetler Birliği'nin Misakımillî'yi tanınması
D) Bugünkü İskenderun - Hatay dışındaki Suriye sınırlarımızın çizilmesi

1. OTURUM

(142) T.C. İNK. TAR. VE ATA. – 2

16. Millî Mücadele Dönemi'nde "Kuvayımilliye'yi amil (etken) ve millî iradeyi hâkim kılmak esastır." kararı aşağıdakilerin hangisinde alınmıştır?

- A) Havza Genelgesi
- B) Erzurum Kongresi
- C) Balıkesir Kongresi
- D) Büyük Millet Meclisinin açılışı

17. "Doğu Trakya, Boğazlar ve İstanbul savaş yapılmadan diplomatik görüşmelerle işgalden kurtarılmıştır." diyen bir tarih öğretmeni, "diplomatik görüşmeler" ile, aşağıdakilerden hangisini kastetmiş olabilir?

- A) Mudanya Ateşkes Antlaşması
- B) Londra Boğazlar Sözleşmesi
- C) Mondros Ateşkes Antlaşması
- D) Lozan Barış Antlaşması

18. TBMM, Sakarya Meydan Muharebesi sırasında cephe yaralanan Mustafa Kemal'e aşağıdaki unvanlardan hangisini vermiştir?

- A) Paşa
- B) Gazi
- C) Efendi
- D) Başkomutan

19. Aşağıdaki gelişmelerden hangisi, "Saltanatın Kaldırılması" konusunu TBMM'nin gündemine taşımıştır?

- A) Düzenli ordunun kurulması
- B) Cumhuriyetin ilan edilmesi
- C) Sakarya Savaşı'nın kazanılması
- D) Lozan görüşmelerine Osmanlı Hükümetinin de çağırılması

20. Aşağıdaki devletlerden hangileri Lozan Barış görüşmelerine yalnız "Boğazlar" rejimi konusu görüşülürken dâhil olmuşlardır?

- A) İtalya ve Bulgaristan
- B) Japonya ve Yunanistan
- C) Sovyet Rusya ve Bulgaristan
- D) Sovyet Rusya, Japonya ve Amerika Birleşik Devletleri

1. Türkiye Cumhuriyeti Devleti'nin ilk meclis başkanı aşağıdakilerden hangisidir?

- A) Refet Bele
- B) İsmet İnönü
- C) Fethi Okyar
- D) Kâzım Karabekir

2. Cumhuriyetin ilanından sonra eğitim öğretim alanında yapılan ilk çalışma aşağıdakilerden hangisidir?

- A) Maarif Teşkilatı Hakkında Kanun'un çıkarılması
- B) Tevhid-i Tedrisat Kanunu'nun kabulü
- C) Medreselerin kapatılması
- D) Latin Harflerinin kabulü

3. "Medeniyim diyen Türkiye'nin gerçekten medeni olan halkı, baştan aşağıya dış görünümü ile dahi, medeni ve olgun insanlar olduklarını fiilen göstermeye mecburdur."

ATATÜRK

Atatürk'ün bu sözü aşağıdaki hangi inkılabı destekler niteliktedir?

- A) Harf inkılabı
- B) Soyadı Kanunu
- C) Kılık kıyafet değişikliği
- D) Ölçüler, saat ve takvimdeki değişiklikler

4. Türkiye'nin ilk muhalefet partisi aşağıdakilerden hangisidir?

- A) Millet Partisi
- B) Demokrat Parti
- C) Serbest Cumhuriyet Fırkası
- D) Terakkiperver Cumhuriyet Fırkası

5. Aşağıdaki ayaklanmalardan hangisi cumhuriyetin ilanından sonra yaşanmıştır?

- A) Koçkiri
- B) Şeyh Sait
- C) Şeyh Eşref
- D) Çerkez Ethem

6. Uşak'ta özel sektörün bir şeker fabrikası kurması, İzmir İktisat Kongresi'nde alınan aşağıdaki kararlardan hangisine uygun düşmektedir?

- A) Millî bankaların kurulmasının sağlanması
- B) Yatırımların devlet eliyle gerçekleştirilmesi
- C) Yabancıların kurduğu tekellerden kaçınılması
- D) Ham maddesi yurt içinde olan sanayi dallarının kurulması

7. Kadın ile erkek arasındaki sosyal ve ekonomik eşitlik aşağıdakilerden hangisiyle sağlanmıştır?

- A) Tekke ve zaviyelerin kapatılması
- B) Tevhid-i Tedrisat Kanunu
- C) Türk Medeni Kanunu
- D) Soyadı Kanunu

8. Atatürk'ün önemli bir maddi desteği ile kurulan ilk özel Türk bankası aşağıdakilerden hangisidir?

- A) İş Bankası
- B) Halkbank
- C) Sümerbank
- D) Ziraat Bankası

9. 1879'da Seraskerlik makamına bağlı olarak kurulan Umum Jandarma Merkeziyesi, aşağıdaki dönemlerin hangisinde yeniden düzenlenerek "Umum Jandarma Komutanlığı" na dönüştürülmüştür?

- A) II. Meşrutiyet Dönemi
- B) I. Meşrutiyet Dönemi
- C) Cumhuriyet Dönemi
- D) Tanzimat Dönemi

10. Mustafa Kemal'e, Türkiye Büyük Millet Meclisi "Atatürk" soyadını aşağıdaki tarihlerin hangisinde vermiştir?

- A) 05 Aralık 1934
- B) 09 Şubat 1934
- C) 21 Haziran 1934
- D) 24 Kasım 1934

1. OTURUM

11. Atatürk'ün "...Türk çocuğu atalarını tanıdıkça daha büyük işler yapmak için kendinde kuvvet bulacaktır." sözüne hizmet eden kurum, aşağıdakilerden hangisidir?

- A) Türk Dil Kurumu
B) Türk Tarih Kurumu
C) Türkiye İş Kurumu
D) Millî İstihbarat Teşkilatı

12. Hava gösterileri yapan "Türk Yıldızları" aşağıdaki kuvvet komutanlıklarından hangisine bağlıdır?

- A) Hava
B) Kara
C) Deniz
D) Jandarma

13. Aşağıdakilerden hangisi Türkiye'nin Milletler Cemiyetine katılmakta geç kalmasının nedenlerinden değildir?

- A) Milletler Cemiyetinin İngiltere'nin kontrolünde faaliyet göstermesi
B) Versay Antlaşması ile kurulan savaş sonrası düzenin korunmak istenmesi
C) Sadabat Paktı ve Balkan Antantı gibi uluslararası örgütlere katılmış olması
D) Sovyetler Birliği'nin Milletler Cemiyetine olumsuz bakması nedeniyle iyi komşuluk ilişkilerinin zedelenmesinin istenmemesi

14. Aşağıdaki devletlerden hangisi Balkan ülkesi olmasına rağmen Balkan Antantı'na katılmamıştır?

- A) Romanya
B) Yugoslavya
C) Yunanistan
D) Bulgaristan

15. Atatürk ilkeleri, Türkiye Cumhuriyeti'nin nitelikleri olarak hangi yıl anayasamıza girmiştir?

- A) 1923
B) 1928
C) 1937
D) 1941

16. Atatürk'ün aşağıdaki ilkelerinden hangisi, içinde bulunduğu milleti içtenlikle sevmeyi, çağdaş bir toplum olarak yüceltmeyi ve onun uğrunda hiçbir fedakârlıktan kaçınmamayı gerektirir?

- A) Laiklik
B) Cumhuriyetçilik
C) Devletçilik
D) Milliyetçilik

17. Atatürkçü düşünce sistemindeki en önemli millî güç unsuru aşağıdakilerden hangisidir?

- A) Siyasi güç
B) Askerî güç
C) Ekonomik güç
D) Sosyokültürel güç

18. İsmet İnönü'nün Türkiye Cumhuriyeti Devleti'ndeki görevleri ile ilgili aşağıdaki bilgilerden hangisi doğrudur?

- A) İlk Genelkurmay Başkanı, ikinci cumhurbaşkanıdır.
B) İlk Meclis Başkanı, ikinci cumhurbaşkanıdır.
C) İlk başbakanı, ikinci cumhurbaşkanıdır.
D) İlk başbakanı, ilk cumhurbaşkanıdır.

19. Aşağıdakilerden hangisi II. Dünya Savaşı sırasında yapılan konferanslardan değildir?

- A) Yalta
B) Adana
C) Colombo
D) Tahran

20. II. Dünya Savaşı'nda Japonya'nın yenilmesinden sonra Doğu Asya'da meydana gelen boşluğu aşağıdaki ülkelerden hangisi doldurmuştur?

- A) Kore
B) Çin
C) Moğolistan
D) Hindistan

(153) COĞRAFYA – 3

1. Aşağıdakilerden hangisi iç püs-kürük kayaçlardandır?

- A) Gre
B) Kaya tuzu
C) Volkan tüfü
D) Granit

2. • Kalkerin başkalaşmasıyla oluşmuştur.
• Sert ve dayanıklı bir kayaç olduğu için yapı malzemesi olarak kullanılmaktadır.

Özellikleri verilen kayaç aşağıdakilerden hangisidir?

- A) Mermer
B) Gnays
C) Andezit
D) Elmas

3. Levha sınırlarında sıcak su kaynaklarının fazla olması bu bölgelerde yenilenebilir enerji kaynaklarından hangisinin potansiyelini artırır?

- A) Hidroelektrik
B) Jeotermal
C) Rüzgâr
D) Dalga

4. Endonezya, İtalya, İzlanda ve Japonya levha sınırında yer alan ülkelerden bazılarıdır.

- I. Deprem riskinin yüksek olması
II. Volkanik faaliyetlerin fazla olması
III. Gelişmişlik düzeylerinin farklı olması

Bu ülkelerin levha sınırında yer alması yukarıdaki özelliklerden hangileri üzerinde etkilidir?

- A) Yalnız I
B) Yalnız II
C) I ve II
D) II ve III

5. Aşağıdaki göl tiplerinden hangisi yer kabuğu hareketlerine bağlı olarak oluşmuştur?

- A) Karstik göller
B) Buzul göller
C) Tektonik göller
D) Kıyı set gölleri

1. OTURUM

6. I. Ekvatorial iklim
II. Akdeniz iklimi
III. Karasal iklim
IV. Ilıman okyanusal iklim

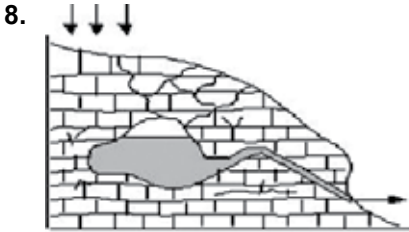
Verilen iklim tiplerinden hangilerindeki akarsuların rejimleri düzenlidir?

- A) I ve II B) I ve IV
C) II ve III D) III ve IV

7. I. Gen aktarımı
II. Bilginin geniş kitlelere ulaştırılması
III. Yok olmakta olan türlerin korunması

Yukarıdakilerden hangileri biyoteknolojinin çalışma alanları içerisinde yer alır?

- A) Yalnız I B) Yalnız II
C) I ve II D) I ve III



Şekilde gösterilen kaynak türü aşağıdakilerden hangisidir?

- A) Karstik kaynak
B) Gayzer kaynağı
C) Yamaç kaynağı
D) Artezyen kaynağı

9. • Suları sıcaktır.
• Mineral bakımından zengindir.

Fay kaynaklarının yukarıda verilen özellikleri hangi alanda önemini daha fazla artırmıştır?

- A) İçme suyu
B) Sulama suyu
C) Enerji üretimi
D) Kaplıca turizmi

10. Humus bitki artıklarının çürümesiyle toprağa karışan ve toprağın verimliliğini artıran organik maddelerdir.

Buna göre aşağıda verilen yerlerden hangisinde humus miktarının daha fazla olması beklenir?

- A) Tunduralarda
B) Kurak alanlarda
C) Çalılık alanlarda
D) Ormanlık alanlarda

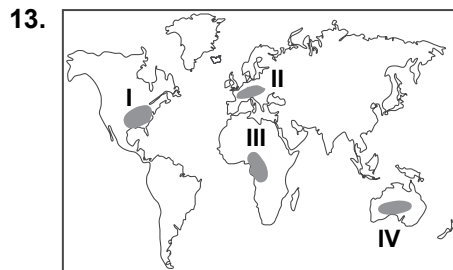
11. Akarsular dere, çay, ırmak ve nehir gibi isimlerle sınıflandırılmaktadır.

Bu sınıflandırmalarda akarsuların hangi özelliği esas alınmıştır?

- A) Rejim düzeni
B) Taşıdığı su miktarı
C) Sularının kimyasal özelliği
D) Havzasının açık veya kapalı olması

12. Havzasında aşındırma faaliyetleri yoğun olan bir akarsu ile ilgili aşağıdakilerden hangisi kesin olarak söylenir?

- A) Yatağının eğimli olduğu
B) Şelaleler oluşturduğu
C) Havzasının kapalı olduğu
D) Bitki örtüsü gür bir bölgede aktığı



Haritada numaralandırılarak verilen alanlardan hangisinde nüfus artış hızları daha fazladır?

- A) I B) II C) III D) IV

14. Eğimli yamaçlarda ufalanmış malzemelerin dağların eteklerinde birikmesiyle oluşan toprak türü aşağıdakilerden hangisidir?

- A) Kolüvyal topraklar
B) Çernezyom topraklar
C) Alüvyal topraklar
D) Terra rossa topraklar

15. Bitki örtüsünün yetişme şartlarını ve yeryüzündeki dağılışlarını inceleyen bilim dalı aşağıdakilerden hangisidir?

- A) Hidroğrafya
B) Bitki coğrafyası
C) Zooloji
D) Fiziki coğrafya

16. Aşağıdakilerden hangisi Dünyada nüfus yoğunluğunun az olduğu yerlerden biridir?

- A) Amazon Havzası
B) Batı Avrupa
C) Hindistan Yarımadası
D) Uzak Doğu Asya

17. Aşağıdaki bitki türlerinden hangisi yıllık yağış miktarının az ve yağış rejiminin düzensiz olduğu yerlerde görülür?

- A) Geniş yapraklı ormanlar
B) Dikenli ot toplulukları
C) Uzun boylu çayırlar
D) İğne yapraklı ormanlar

18. Eğitim, sağlık, bankacılık, turizm, güvenlik ve ulaşım gibi iş kolları hangi ekonomik faaliyet grubunda yer alır?

- A) Birincil ekonomik faaliyetler
B) İkincil ekonomik faaliyetler
C) Üçüncül ekonomik faaliyetler
D) Dördüncül ekonomik faaliyetler

1. OTURUM

19. I. Evlenme yaşı yüksektir.
II. Bebek ölümleri fazladır
III. Çekirdek aile yapısı yaygındır.

Eğitim seviyesinin yüksek olduğu bir ülkenin nüfus özellikleri arasında yukarıda verilenlerden hangileri gösterilebilir?

- A) Yalnız I B) Yalnız II
C) I ve III D) II ve III

20. Aşağıdakilerden hangisi göçler üzerinde etkili olan itici faktörler arasında gösterilemez?

- A) Ekonomik kriz
B) Ekonomik güvensizlik
C) Doğal afetler
D) Özgür yaşama imkanı

(154) COĞRAFYA – 4

1. • Kuzey Anadolu Dağlarının denize bakan yamaçlarında yaygındır.
• Orman örtüsü altında oluştuğularından organik maddece zengindir.
• Çay ve kivi tarımı için oldukça elverişlidir.

Yukarıda özellikleri verilen toprak türü aşağıdakilerden hangisinde verilmiştir?

- A) Kırmızı Akdeniz Toprakları
B) Kahverengi Bozkır Toprakları
C) Kahverengi Orman Toprakları
D) Kestane Renkli Bozkır Toprakları

2. Arazisinin yaklaşık %36'sı tarıma uygun olan ülkemiz, ürün çeşitliliğinde dünyanın önde gelen ülkeleri arasında yer almaktadır.

Buna göre Türkiye'deki tarım ürünleri çeşitliliğinde aşağıdakilerden hangisinin etkisi daha fazladır?

- A) Yer şekilleri
B) İklim çeşitliliği
C) Toprak çeşitliliği
D) Nüfus yoğunluğu

3. Aşağıdaki akarsulardan hangisi Basra Körfezi'ne dökülür?

- A) Asi B) Çoruh
C) Dicle D) Seyhan

4. Ülkemizde kızılçam, karaçam, köknar, sedir ve ladin gibi iğne yapraklı ağaç türlerinin yanısıra; meşe, kayın, kestane, kavak gibi geniş yapraklı ağaç türleride yayılış alanı bulmaktadır.

Bu durum Türkiye ile ilgili aşağıdakilerden hangisine kesin kanıt oluşturur?

- A) Karışık orman kuşağında bulunduğuna
B) Üç tarafının denizlerle çevrili olduğuna
C) Dağların kıyıya paralel uzandığına
D) Kıyı ve iç kesimler arasında iklim farkı olduğuna

5. Aşağıdaki şehirlerden hangileri arasında deniz yoluyla yük ve yolcu taşınamaz?

- A) İzmir - İstanbul
B) Gümüşhane - Mersin
C) Trabzon - Zonguldak
D) İzmit - Samsun

6. Türkiye'de çok sayıda baraj bulunması akarsularımızın aşağıdaki özelliklerinden hangisinin sonucudur?

- A) Boylarının kısa olmasının
B) Dar ve derin vadilerde hızlı akmalarının
C) Rejimlerinin düzensiz olmasının
D) Genellikle açık havzalı olmalarının

7. Ege Denizi kıyılarında koy, körfez, ada ve yarımada sayısının fazla olmasının temel nedeni nedir?

- A) Sularının sıcak olması
B) Deniz ikliminin görülmesi
C) Dağların kıyıya dik uzanması
D) Turizm faaliyetlerinin yaygın olması

8. Aşağıdakilerden hangisi devamlı kır yerleşmelerindedir?

- A) Çiftlik B) Yayla
C) Ağıl D) Oba

9. • İşlek bir limana sahiptir.
• İthalat ve ihracat yoğunudur.
• Sanayi tesisleri, iş yeri ve pazarlara sahiptir.

Aşağıdakilerden hangisi yukarıda verilen özelliklere sahip şehirlerden değildir?

- A) İzmir B) Artvin
C) İstanbul D) Mersin

10. Türkiye'de 1985 yılından sonra nüfus artış hızında düzenli bir azalma olmuştur.

Aşağıdakilerden hangisi bu durumun nedenleri arasında gösterilemez?

- A) Evlenme yaşının yükselmesi
B) Aile planlaması uygulamaları
C) Eğitim düzeyinin yükselmesi
D) İş kollarının artıp çeşitlenmesi

11. Aşağıdakilerden hangisi kırdan kente yapılan göçleri önlemek için alınabilecek tedbirler arasında gösterilemez?

- A) Besi ve ahır hayvancılığını yaygınlaştırmak
B) Modern tarım yöntemleri ile üretimi artırmak
C) Kırsal alanlarda eğitim ve sağlık hizmetlerini iyileştirmek
D) Tarım topraklarının miras yoluyla bölünmesini sağlamak

12. Aşağıdakilerden hangisi nüfus artışının olumlu sonuçlarından dir?

- A) Göçleri hızlandırması
B) Bağımlı nüfusu arttırması
C) Vergi gelirlerini yükseltmesi
D) Alt yapı giderlerini arttırması

13. İstanbul, Bursa ve İzmir gibi gelişmiş şehirlerde erkek nüfusu kadın nüfusundan fazladır.

Bu durum aşağıdakilerden hangisinin sonucudur?

- A) Doğan erkek çocuk sayısının daha fazla olması
B) İşçi göçlerine erkeklerin daha çok katılması
C) Erkeklerde okur - yazarlık oranının daha yüksek olması
D) Kadınlarda ortalama yaşam süresinin daha fazla olması

1. OTURUM

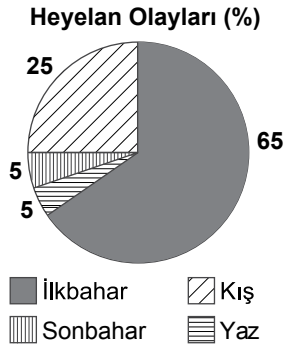
14. Aşağıdaki su yollarından hangisinin Dünya deniz taşımacılığındaki önemi daha azdır?

- A) Süveyş Kanalı
- B) Cebelitarık Boğazı
- C) Panama Kanalı
- D) Bering Boğazı

15. Süveyş Kanalı hangi iki deniz arasındaki ulaşımı kolaylaştırır?

- A) Akdeniz – Kızıldeniz
- B) Karadeniz – Ege Denizi
- C) Baltık Denizi – Manş Denizi
- D) Japon Denizi – Doğu Çin Denizi

16. Aşağıdaki grafikte Türkiye’de gerçekleşen heyelan olaylarının mevsimlere dağılışı oranları verilmiştir.



Buna göre, grafikte ilgili aşağıdakilerden hangisi söylenemez?

- A) Heyelan olayları en fazla ilkbahar mevsiminde gerçekleşmektedir.
- B) Yaz ve sonbahar mevsiminde gerçekleşen heyelanlar oranları eşittir.
- C) Kış mevsiminde heyelan sonbahar ve yaz mevsimlerinden daha fazladır.
- D) Ülkemizin batısındaki heyelan olayları doğusuna oranla daha fazladır.

17. Bangladeş; Himalaya Dağları'nın güneyinde Ganj ve Brahmaputra nehirlerinin birleşerek Bengal Körfezi'ne döküldüğü muson iklimi bölgesinde yer almaktadır.

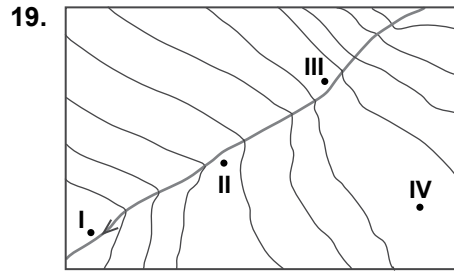
Bangladeş'in bu konumu ülkede aşağıdaki doğal afetlerden hangisinin sıklıkla yaşanmasına neden olmuştur?

- A) Sel ve taşkın
- B) Volkanizma
- C) Deprem
- D) Kuraklık

18. I. Orta Kuşak'ta yer alması
II. Üç tarafının denizlerle çevrili olması
III. Okyanuslara kıyısının olmaması

Yukarıdakilerden hangileri Türkiye'nin kasırga, tayfun ve hortum gibi tropikal fırtınaların yaygın görüldüğü ülkeler arasında yer almamasında etkilidir?

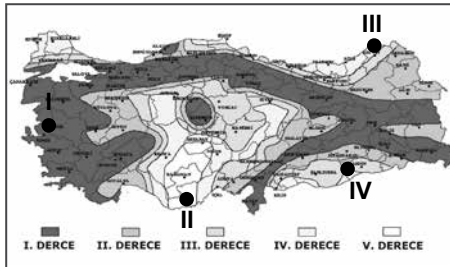
- A) Yalnız I
- B) Yalnız II
- C) I ve III
- D) II ve III



Yukarıdaki topografya haritasında verilen merkezlerden hangisinde sel felaketi riski daha azdır?

- A) I
- B) II
- C) III
- D) IV

20.



Haritada numaralandırılarak verilen yerlerden hangisinde deprem riski daha yüksektir?

- A) I
- B) II
- C) III
- D) IV

(155) COĞRAFYA – 5

1. • Bazı canlılar yeni şartlara uyum sağlama çabasındadır.
- Canlıların bir kısmı uygun koşulların olduğu yerlere göç etmektedirler.
- Canlı türlerinden bazıları azalmış bazıları ise yok olmuştur.

Canlı türlerinde yukarıdaki durumların gözlemlendiği bir bölge için aşağıdakilerden hangisi kesinlikle söylenebilir?

- A) Yıllık yağış miktarı artmıştır.
- B) Bölgenin sınırları genişlemiştir.
- C) Bölgedeki canlı türleri artmıştır.
- D) Coğrafi şartlarda değişiklikler olmuştur.

2. Aşağıdakilerden hangisi biyoçeşitliliği tehdit eden etmenlerden değildir?

- A) Erozyon
- B) Fotosentez
- C) Küresel ısınma
- D) Ziraî ilaç kullanımı

3. • Dünyanın en zengin doğal yaşam alanlarıdır.
- Yıllık yağış miktarı ve sıcaklık ortalaması yüksektir.

Yukarıda bazı özellikleri verilen bölge aşağıdakilerden hangisidir?

- A) Tropikal iklim bölgeleri
- B) Tundra iklim bölgeleri
- C) Kutup iklimi bölgeleri
- D) Çöl iklimi bölgeleri

4. Sadece Amerika kıtasında görülen bazı bitki ve hayvan türleri coğrafi keşiflerin sonucunda Avrupa ve Asya kıtalarında da yetiştirilmeye başlanmıştır.

Bu durum canlıların yeryüzündeki dağılışı üzerinde aşağıdakilerden hangisinin etkisine örnek oluşturur?

- A) İklim
- B) İnsan
- C) Kıtaların kayması
- D) İklim değişiklikleri

1. OTURUM

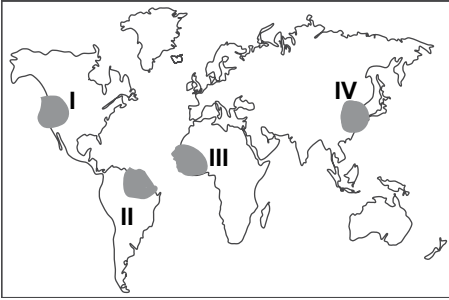
5. Aşağıdaki canlılardan hangisi kendi enerjisini kendi üretebilir?

- A) Kayın B) Yılan
C) Tavşan D) Kartal

6. Aşağıda verilen yerlerden hangisinde birim alandaki termleyle atmosfere karışan su buharı miktarı daha fazladır?

- A) Çöl bölgelerinde
B) Deniz kıyılarında
C) Dağlık alanlarda
D) Ormanlık alanlarda

7.



Haritadaki taralı alanlardan hangisinde nüfusu 10 milyonu aşan şehir sayısı daha fazladır?

- A) I B) II C) III D) IV

8. Sanayi tesislerinin kurulacağı yerler tespit edilirken ulaşım imkanlarının uygun olmasına önem verilir.

Aşağıdakilerden hangisi bu durumun nedenleri arasında yer almaz?

- A) Hammaddenin kolay taşınabilmesi
B) Yeraltı kaynakları bakımından zengin olması
C) Üretilen ürünlerin daha geniş alana ulaştırılabilmesi
D) İşçilerin fabrikaya kolay ulaşabilmesi

9. Aşağıdaki haberlerden hangisi tüketimin üretimi etkilemesine örnek oluşturur?

- A) Petrol fiyatlarının düşmesi benzin tüketimini artırdı.
B) İlkbaharda yaşanan don olayı kayısı üretimini azaltmıştır.
C) Şalgam suyu üreticileri kuş gripine iyi geldiği iddiasıyla artan talebe yetişememektedir.
D) Bu kış hamsinin bol olması balık fiyatlarının ucuzlamasına neden olmuştur.

10. Aşağıdakilerden hangisi bir ülkenin gelişmişliği üzerinde daha belirleyici olmaktadır?

- A) Yetiştirilmiş insan gücüne sahip olması
B) Zengin doğal kaynaklara sahip olması
C) Geniş yüzölçümüne sahip olması
D) Nüfus miktarının fazla olması

11. Dünyanın en büyük çöllerinden olan Sahra Çölü Kuzey Afrika'nın büyük kısmını kaplamaktadır.

Bu durum Kuzey Afrika'ya aşağıdaki doğal kaynaklardan hangisi bakımından avantaj sağlar?

- A) Su B) Dalga
C) Güneş D) Toprak

12. Anadolu'da birçok medeniyetin kurulup gelişmesinde aşağıdaki özelliklerinden hangisinin etkisi bulunmaz?

- A) Uygun iklim koşullarına sahip olması
B) Üç tarafının denizlerle çevrili olması
C) İkinci ve üçüncü saat diliminde yer alması
D) Kıta ve bölgelerin kavşak noktasında bulunması

13. Bir ülkede gelişmişlik düzeyinin artmasının tarım ve hizmet sektörlerinde çalışanların oranında meydana getireceği değişim ile ilgili aşağıdakilerden hangisi doğrudur?

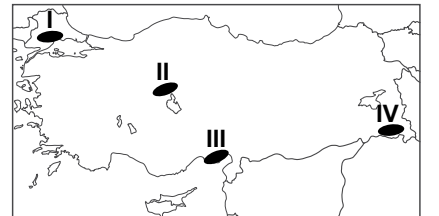
	Tarım	Hizmet
A)	azalır	artar
B)	azalır	azalır
C)	artar	artar
D)	artar	azalır

14. I. Sanayide dışa bağımlılığı arttırmak
II. Daha fazla ülkeye, daha fazla ihracat yapmak
III. İleri teknoloji ürünlerinin üretimini arttırmak

Yukarıdakilerden hangileri Türkiye'nin 2023 yılı hedeflerinden biri olamaz?

- A) Yalnız I B) Yalnız II
C) I ve III D) II ve III

15.



Haritada numaralandırılarak verilen alanlardan hangisinde dağlık ve engebeli araziler daha geniş yer tutar?

- A) I B) II C) III D) IV

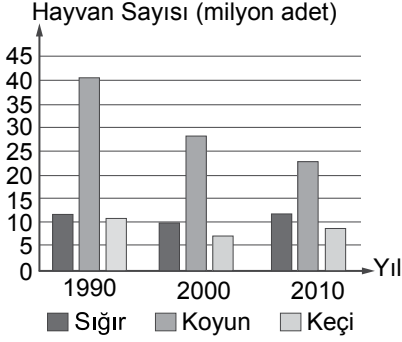
16. Aşağıdakilerden hangisi ülkemizde uygulanan ekonomi politikalarının amaçları arasında gösterilemez?

- A) İstihdamı arttırmak
B) Kaynakları verimli kullanmak
C) Gelir dağılımını dengelemek
D) İthalat miktarını arttırmak

1. OTURUM

(156) COĞRAFYA – 6

17. Aşağıdaki grafikte bazı yıllar itibarıyla Türkiye'deki sığır, koyun ve keçi sayıları gösterilmiştir.



Grafiğe bakarak aşağıdakilerden hangisi söylenemez?

- A) Koyun sayısı sürekli azalmıştır.
B) Koyun sayısı 2000 yılında 40 milyonu aşmıştır.
C) Keçi ve sığır sayısı arasındaki fark 1990 yılında en azdır.
D) Sığır sayısı önce azalmış sonra artmıştır.

18. Dünya rezervinin yarısından fazlasının ülkemizde bulunduğu maden aşağıdakilerden hangisidir?

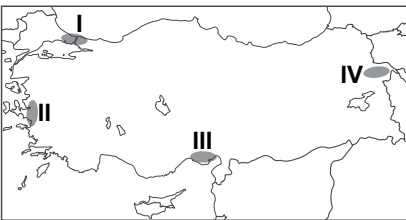
- A) Bakır B) Bor
C) Demir D) Linyit

19. I. Petrol
II. Hidroelektrik
III. Doğalgaz
IV. Jeotermal

Türkiye'nin enerjide dışa bağımlılığını azaltmak için yukarıdakilerden hangilerinin enerji üretimindeki payını artırmak gerekir?

- A) I ve II B) I ve III
C) II ve IV D) III ve IV

- 20.



Haritada numaralandırılarak verilen yerlerden hangisinde sanayi faaliyetleri daha azdır?

- A) I B) II C) III D) IV

1. Aşağıdakilerden hangisi Türk kültürünün genel özellikleri arasında gösterilemez?

- A) Çok köklü ve eski olması
B) Denizcilik alanında uzmanlaşmış olması
C) Çok sayıda kültür ile etkileşime girmiş olması
D) Halkın geçiminde tarım ve hayvancılığın önemli olması

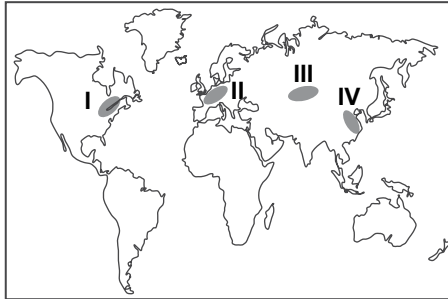
2. Aşağıdaki kıtalardan hangileri arasında ticaret ağı daha yoğundur?

- A) Avrupa – Afrika
B) Asya – Okyanusya
C) Güney Amerika – Asya
D) Kuzey Amerika – Avrupa

3. Aşağıdakilerden hangisi Türk kültürünün yayılış alanı değildir?

- A) Kafkasya
B) Orta Asya
C) Orta Amerika
D) Balkan Yarımadası

- 4.



Haritada verilen bölgelerden hangisi Dünya'daki önemli sanayi üretim alanları arasında gösterilemez?

- A) I B) II C) III D) IV

5. Doğal veya kültürel bir değer koruma altına alınması istenildiğinde aşağıdaki kuruluşlardan hangisi ile çalışılmalıdır?

- A) UNESCO B) NATO
C) AĞİT D) IMF

6. Aşağıdaki faaliyetlerden hangisi geliştiği yerlerde çevre ve ekolojiye çoğunlukla olumlu etkide bulunur?

- A) Enerji B) Sanayi
C) Ulaşım D) Turizm

7. Japonya ile ilgili aşağıdakilerden hangisi söylenemez?

- A) Sanayisi gelişmiştir
B) Eğitim seviyesi yüksektir
C) Dış ticaret hacmi yüksektir
D) Doğurganlık oranı yüksektir

8. Turizm faaliyetleri ile ilgili aşağıdakilerden hangisi söylenemez?

- A) Avrupa, en fazla turist çeken kıtadır.
B) Sanayi tesislerinin yoğun olduğu yerlerde doğa turizmi gelişmiştir.
C) Gelişmiş ülke vatandaşları turizm faaliyetlerine daha fazla katılmaktadır.
D) Turizm faaliyetleri toplumlar arası kültürel etkileşime katkı yapmaktadır.

9. • Elektrik ve elektronik aletler
• İleri teknoloji ürünleri
• Otomotiv
• Kimya

Yukarıda verilen alanlarda yurtdışına yüksek miktarlarda ihracat yapan bir ülke ile ilgili aşağıda varılan yargılardan hangisi doğrudur?

- A) Sanayisi gelişmiştir.
B) Dış ticaret açığı vermektedir.
C) Kişi başına düşen milli gelir azdır.
D) Tarımda çalışanların oranı yüksektir.

10. Aşağıdakilerden hangisi Dünya'nın yedi harikasından biridir?

- A) Adıyaman Nemrut Dağı
B) Meksika Ulusal Parkı
C) İskenderiye Feneri
D) Eyfel Kulesi

1. OTURUM

11. Türkiye aşağıdaki uluslararası kuruluşlardan hangisine üye değildir?

- A) Avrupa Birliği
- B) Birleşmiş Milletler
- C) Kuzey Atlantik Antlaşması Örgütü
- D) Karadeniz Ekonomik İş birliği Teşkilatı

12. Hindistan ve Çin'de aşağıda verilen tarım ürünlerinden hangisi daha çok üretilmektedir?

- A) Buğday
- B) Pamuk
- C) Pirinç
- D) Yer fıstığı

13. Aşağıdakilerden hangisi dünya çapında faaliyet gösteren çevre örgütlerindendir?

- A) NATO
- B) NAFTA
- C) IMF
- D) Greenpeace

14. Ülkelerin gelişmişlik düzeyi ve doğal kaynaklarını kullanmaları arasındaki ilişki hakkında aşağıdakilerden hangisi söylenemez?

- A) Gelişmiş ülkelerde alternatif kaynak arayışı daha fazladır.
- B) Geri kalmış ülkelerde doğal kaynaklardan daha az oranda yararlanılır.
- C) Gelişmiş ülkelerde doğal kaynaklar kullanılırken teknolojiye daha fazla yararlanılır.
- D) Geri kalmış ülkeler sadece yenilenebilir doğal kaynakları kullanırlar.

15. Aşağıdakilerden hangisi alternatif enerji kaynakları arasında yer almaz?

- A) Biyoenerji
- B) Jeotermal
- C) Doğal gaz
- D) Gelgit

16. Barajların yapılma amaçları arasında aşağıdakilerden hangisi bulunmaz?

- A) Enerji üretmek
- B) Tarım alanlarını sulamak
- C) Sel ve taşkınları kontrol etmek
- D) Canlı türlerini kontrol etmek

17. Aşağıdaki enerji kaynaklarından hangisinin kullanılması daha fazla çevre sorununa neden olur?

- A) Kömür
- B) Güneş
- C) Jeotermal
- D) Hidroelektrik

18. Aşağıdaki enerji kaynaklarından hangisinin kullanımı sera gazlarının salınımına ve asit yağmurlarına sebep olur?

- A) Petrol
- B) Rüzgar
- C) Nükleer
- D) Dalga

19. Aşağıdakilerden hangisi küresel ısınmanın olası etkilerinden değildir?

- A) Kuraklık ve sel gibi ekstrem doğa olaylarında artışlar görülmesi
- B) Canlı tür ve çeşitliliğinde artışların olması
- C) Buzulların erimesi sonucunda deniz seviyesinde değişimlerin görülmesi
- D) Tarım ürünlerinin çeşidinin ve miktarının azalması

20. Aşağıdakilerden hangisi geri dönüşümün sonuçlarından biridir?

- A) Atık miktarı artar.
- B) Enerjiden tasarruf edilir.
- C) Organik tarım azalır.
- D) Daha çok maden tüketilir.

(157) COĞRAFYA – 7

1. Aşağıdaki ekstrem olaylardan hangisi jeolojik ve jeomorfolojik kökenli faktörlerin biraraya gelmesiyle oluşur?

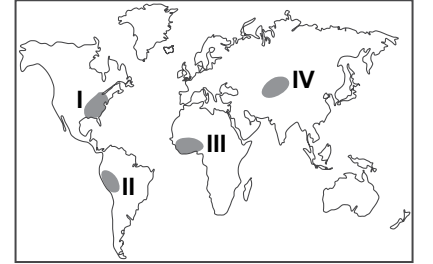
- A) Kuraklık
- B) Fırtınalar
- C) Kütle hareketleri
- D) Aşırı sıcaklıklar

2. Manş tüneli, İngiltere ve Fransa'yı denizin altından birleştirmektedir.

Ülkemizde aşağıdaki projelerden hangisi denizin altından iki kıtayı birleştirmesi nedeniyle Manş tüneli örneğine benzerlik gösterir?

- A) Marmaray projesi
- B) Kanalistanbul projesi
- C) Metrobüs hattı projesi
- D) İzmit körfez geçiş projesi

3.



Fosil yakıtların kullanımı küresel ısınmayı hızlandıran en büyük etmendir.

Buna göre haritada verilen yerlerden hangisinin küresel ısınmaya etkisi daha fazladır?

- A) I
- B) II
- C) III
- D) IV

4. Coğrafi keşifler Amerika Kıtası'nda var olan medeniyetlerin kültürel ve etnik yapısını daha fazla etkilemiştir.

- I. Mezopotamya medeniyeti
- II. Maya medeniyeti
- III. Aztek medeniyeti

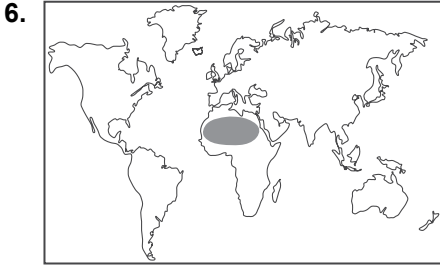
Buna göre yukarıdaki medeniyetlerden hangileri coğrafi keşiflerden daha fazla etkilenmiştir?

- A) Yalnız I
- B) Yalnız III
- C) I ve II
- D) II ve III

5. Aşağıdakilerden hangisi Fırat ve Dicle nehirlerinin arasında kurulan medeniyettir?

- A) Mısır
- B) Hint
- C) Akdeniz
- D) Mezopotomya

1. OTURUM



6. Haritada taranarak verilen alandaki insanların su kaynaklarının yakınlarında toplanmasının sebebi nedir?

- A) Kuraklık
- B) Gür bitki örtüsü
- C) Düşük sıcaklık
- D) Yükselti ve engebe

7. Gebze ve Essen şehirlerinin gelişmesinde aşağıdakilerden hangisi daha fazla etkili olmuştur?

- A) Tarım
- B) Sanayi
- C) Turizm
- D) Liman

8. Uzay ve uydu teknolojilerinin aşağıdaki alanlardan hangisindeki önemi daha azdır?

- A) Haberleşme
- B) Seyrüsefer
- C) Tıp
- D) Gözlem

9. Çukurova aşağıdaki bölge sınıflandırmalarından hangisinin içerisinde yer almaz?

- A) Akdeniz iklim bölgesi
- B) Ovalık bölgeler
- C) Maden bölgesi
- D) Tarım bölgesi

10. Kömür madeninin çıkarıldığı yerlerde genellikle aşağıdaki sanayi kollarından hangisi gelişir?

- A) Tekstil
- B) Demir-çelik
- C) Petrokimya
- D) Tersaneler

11. Yoğun nüfuslu merkezler arasındaki ulaşım hatlarının yoğunluğu fazladır.

Buna göre, aşağıdaki şehirlerden hangileri arasındaki ulaşım hatları daha yoğundur?

- A) Ankara – İstanbul
- B) Adana – Konya
- C) Erzurum – Iğdır
- D) İzmir – Bursa

12. Aşağıdakilerden hangisi ticaret potansiyellerine göre yapılan gruplamada orta büyüklükte şehir kategorisine girer?

- A) İzmir
- B) Sinop
- C) Amasya
- D) Gaziantep

13. Ülkemizin gelişmişlik düzeyinin artması aşağıdakilerden hangisinin ihracattaki payını azaltır?

- A) Taşıt araçlarının
- B) Hammaddelerin
- C) Dayanıklı tüketim mallarının
- D) Elektrik ve elektronik ürünlerin

14. Bulunduğu merkezi konum; uluslararası düzeyde kara, hava ve deniz yolu ulaşımında ülkemizin önemini arttırmıştır.



Buna göre ülkemizin haritadaki bölgelerden hangisinin ulaşım sistemleri için önemini daha az olması beklenir?

- A) Balkanlar
- B) Ortadoğu
- C) Orta Asya
- D) Kafkasya

15. Yaz turizminde aşağıdaki illerimizden hangisi daha önemlidir?

- A) Ağrı
- B) Antalya
- C) Adana
- D) Samsun

16. Ülkemizin iç ve dış ticaretinde aşağıdaki şehirlerimizden hangisinin payı en fazladır?

- A) Adana
- B) İstanbul
- C) Ankara
- D) İzmir

17. Türkiye'nin dış ticaretinde aşağıdaki yerlerden hangisinin payı daha fazladır?

- A) Orta Asya ülkeleri
- B) Güney Amerika ülkeleri
- C) Avrupa Birliği ülkeleri
- D) Kuzey Afrika ülkeleri

18. Türkiye'nin 2023 turizm stratejisinde, turizm değerlerinin korunması ve turizmin geliştirilmesi amaçlanmaktadır.

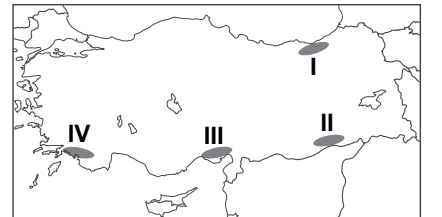
Aşağıdakilerden hangisi bu amaca uygun olmaz?

- A) Turizmi çeşitlendirmek
- B) Turizm altyapısını iyileştirmek
- C) Tanıtım faaliyetlerini artırmak
- D) Turizm merkezlerinde sanayi tesislerini artırmak

19. Aşağıdakilerden hangisi turizmin kültürel etkilerindedir?

- A) Döviz girdisi sağlanması
- B) Altyapı yatırımlarının artması
- C) Ulaşım hatlarının gelişmesi
- D) Toplumlar arası etkileşimin artması

20. Arabistan'daki çöl iklimi bölgesinde yaşayan bir aile, yeşilliği bol, serin ve nemli bir bölgede yayla turizmine katılmak istemektedir.



Bu ailenin haritada numaralandırılarak verilen yerlerden hangisine gitmesi en uygun olur?

- A) I
- B) II
- C) III
- D) IV

1. OTURUM

(158) COĞRAFYA – 8

1. Cumhuriyet döneminde yapılan ilk nüfus sayımında ülkemiz nüfusunun yaklaşık ne kadar olduğu tespit edilmiştir?

- A) 5.4 milyon B) 9.2 milyon
C) 13.6 milyon D) 24.4 milyon

2. Tablodaki nüfus verileri Türkiye'ye aittir.

Yıllar	Nüfus Miktarı (Milyon)	Yıllık Nüfus Artış Hızı (%)
1985	50	24,9
1990	56	21,7
2000	67	18,4
2010	73	15,9
2014	78	13,3

Tablodaki bilgilerden hareketle aşağıdakilerden hangisine ulaşamaz?

- A) 1985 ile 2014 yılları arasında nüfusumuz kırk milyon artmıştır.
B) Nüfus artış hızı verilen yıllarda sürekli azalmıştır.
C) Nüfus miktarı 2001-2010 yılları arasında 70 milyonu geçmiştir.
D) Nüfus miktarı verilen yıllarda sürekli artmıştır.

3. Aşağıdakilerden hangisi 1963 yılından sonra Türkiye'nin uyguladığı nüfus artış hızını yavaşlatıcı politikalarına uygun değildir?

- A) Eğitim seviyesinin yükseltilmesi
B) Aile planlamasına öncelik verilmesi
C) Erken yaşta evlenmenin önüne geçilmesi
D) Ailelere sahip oldukları her çocuk için para verilmesi

4. Aşağıdakilerden hangisi nüfusun yaşlanmasına bağlı ortaya çıkan sorundur?

- A) Gelir düzeyinin artması
B) Bağımlı nüfusun artması
C) Doğum oranlarının artması
D) Eğitim seviyesinin yükselmesi

5. Güneydoğu Anadolu Projesi'nin ülke ekonomisine yaptığı katkılar arasında aşağıdakilerden hangisi yoktur?

- A) Sulu tarım yapılan alanların artması
B) Hidroelektrik üretim miktarının artması
C) Madenlerden elde edilen gelir miktarının artması
D) Tarımsal çeşitliliğin ve tarımsal üretimin artması

6. Ülkemizde uygulanan bölgesel kalkınma projelerinin ortak amaçları arasında aşağıdakilerden hangisi gösterilemez?

- A) Halkın gelir düzeyinin yükseltilmesi
B) Bölgelerin avantajlı yönlerinin açığa çıkarılması
C) Bölgelerin ülke ekonomisine yaptığı katkının artırılması
D) Bölgeler arasındaki göçün artırılması

7. Aşağıdakilerden hangisi jeopolitiğin değişen unsurlarındandır?

- A) İklim
B) Coğrafi konum
C) Jeolojik özellikler
D) Ekonomik değerler

8. Karadeniz'e kıyısı olan ülkelerin deniz yoluyla diğer deniz ve okyanuslara açılmasında İstanbul ve Çanakkale boğazları çok önemli bir yere sahiptir.

Buna göre, İstanbul ve Çanakkale boğazlarının aşağıdaki ülkelerden hangisinin deniz ulaşımındaki önemi daha azdır?

- A) Rusya B) Tunus
C) Gürcistan D) Bulgaristan

9. Aşağıdakilerden hangisi Türkiye – Yunanistan arasındaki ilişkiyi daha az etkileyen sorunlardan biridir?

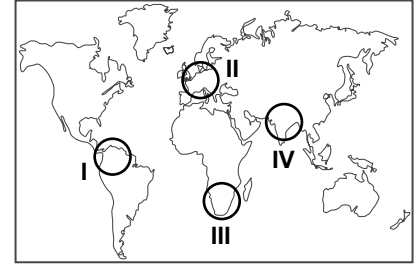
- A) Kıbrıs sorunu
B) Filistin sorunu
C) Batı Trakya sorunu
D) Ege Denizi kıta sahanlığı sorunu

10. I. Uzun ve sağlıklı yaşam
II. Nüfusun ülke geneline dağılımı
III. Siyasi özgürlük

Yukarıdakilerden hangileri insani gelişim endeksinde dikkate alınan unsurlardandır?

- A) Yalnız I B) Yalnız II
C) I ve III D) II ve III

11. Ülkelerin gelişmişlik seviyeleri arttıkça, insani gelişim indeksinde sıralaması yukarılara çıkmaktadır.



Buna göre, haritada numaralandırılmış alanlardan hangisinde insani gelişim indeksi daha yüksektir?

- A) I B) II C) III D) IV

12. Aşağıdakilerden hangisi ülkemizi insani gelişim indeksinde üst sıralara taşıyabilecek bir uygulamadır?

- A) Sağlık alanında yatırımları arttırmak
B) Yatırımları belirli bölgelerde yoğunlaştırmak
C) Tarımda makine kullanımını azaltmak
D) Zorunlu eğitim süresini azaltmak

13. Aşağıdakilerden hangisi Almanya, Japonya, İngiltere, Fransa ve ABD gibi ülkelerin gelişmişlik düzeylerini arttırmaz?

- A) Yaşlı nüfusun toplam nüfus içindeki oranının artması
B) Sanayi ve tarımsal üretim kapasitesinin artması
C) İç ve dış ticaret hacimlerinin büyümesi
D) Nüfusun eğitim seviyesinin yükselmesi

1. OTURUM

14. Afrika Kıtası'nın en gelişmiş ekonomisine sahip ülkesi aşağıdakilerden hangisidir?

- A) Libya
B) Somali
C) Nijerya
D) Güney Afrika Cumhuriyeti

15. Yapılmış ve yapım aşamasında olan aşağıdaki boru hatlarından hangisi ülkemizden geçmez?

- A) Bakü-Tiflis-Ceyhan Boru Hattı
B) Tengiz-Novorossisk Boru Hattı
C) Kerkük-Yumurtalık Boru Hattı
D) Trans Anadolu Doğal Gaz Boru Hattı

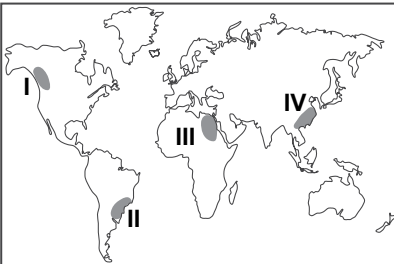
16. Aşağıdaki ülkelerden hangisi günümüzde gerçekleştirdiği hızlı büyüme ile dünya ekonomileri arasında hızla üst sıralara yükselmektedir?

- A) Çin
B) ABD
C) Almanya
D) Japonya

17. Aşağıdakilerden hangisi doğal yaşam için faydalı uygulamalardandır?

- A) Bataklıkların kurutulması
B) Akarsu vadilerine yerleşmelerin yapılması
C) Yerleşmelerin ovalara doğru genişlemesi
D) Fosil yakıt kullanımının azaltılması

18. Kurak ve yarı kurak iklim bölgelerinde su kaynaklarının kullanımının gelecekte olası bazı çatışmalara neden olma riski taşıdığı belirtilmektedir.



Bu risk haritada numaralandırılarak verilen taralı alanların hangisinde daha yüksektir?

- A) I B) II C) III D) IV

19. Aşağıdakilerden hangisi ekolojik dengenin bozulmasına neden olan durumlardan değildir?

- A) Bilinçsiz avlanma
B) Çevre kirliliğinin artması
C) Yeni canlı türlerinin keşfedilmesi
D) Canlıların yaşam alanlarının tahrip edilmesi

20. Dünya'daki büyük şirketlerin üretimlerini Çin'e kaydırmalarında Çin'in hangi özelliği daha fazla etkili olmuştur?

- A) Ucuz iş gücü
B) Coğrafi konumu
C) Uygun iklim koşulları
D) Zengin doğal kaynakları

(163) MATEMATİK – 3

1. $\frac{10! + 9!}{9! + 8!}$ işleminin sonucu kaçtır?

- A) 90 B) 19
C) $\frac{99}{10}$ D) $\frac{19}{10}$

2. 4 erkek ve 3 kız, iki erkek arasında bir kız olacak şekilde yan yana kaç farklı şekilde dizilebilirler?

- A) 6! B) 7!
C) $2! \cdot 4! \cdot 3!$ D) $4! \cdot 3!$

3. $A = \{1, 2, 3, 4, 5, 6\}$ kümesinin 3 elemanlı alt kümelerinin kaç tanesinde 2 bulunur?

- A) 6 B) 10 C) 15 D) 20

4. Hilesiz iki zar atılması deneyinde üst yüze gelen sayıların çarpımının tek sayı olma olasılığı nedir?

- A) $\frac{4}{9}$ B) $\frac{1}{3}$
C) $\frac{1}{4}$ D) $\frac{2}{9}$

5. $f : \mathbb{R} \rightarrow \mathbb{R}$, $f(x) = 2x + f(-x)$ fonksiyonu tek fonksiyon olduğuna göre $f(5)$ değeri kaçtır?

- A) 2 B) 3 C) 4 D) 5

6. $f, g : \mathbb{R} \rightarrow \mathbb{R}$, $f(x) = 2x - 4$ ve $g(x) = x^2 - 2x + 16$ olduğuna göre $(2f - g)(3)$ değeri kaçtır?

- A) -19 B) -15
C) -9 D) -5

7. $f, g : \mathbb{R} \rightarrow \mathbb{R}$,
 $f(x) = x^3 + x^2 + x + 1$,
 $g(x) = 2x - 3$ fonksiyonları veriliyor. Buna göre $(f \circ g)(2)$ değeri kaçtır?

- A) 4 B) 7 C) 11 D) 15

8. f bire bir ve örten bir fonksiyondur. $f(x) = -2x + 3$ olduğuna göre $f^{-1}(x)$ 'in kuralı aşağıdakilerden hangisidir?

- A) $\frac{x-3}{2}$ B) $\frac{x-2}{3}$
C) $\frac{3-x}{2}$ D) $\frac{2-x}{3}$

9. Analitik düzlemde verilen $A(-2, 3)$ ve $B(k, 1)$ noktaları arasındaki uzaklık 2 birim olduğuna göre k 'nin değeri kaçtır?

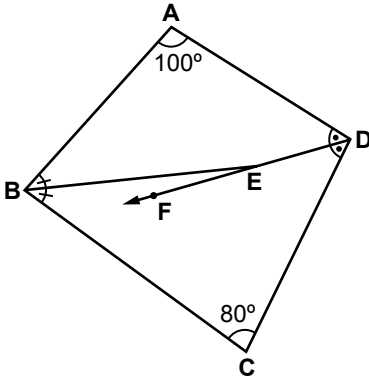
- A) -2 B) -1 C) 1 D) 2

10. $A(-2, 1)$ noktasından geçen ve eğimi $-\frac{1}{2}$ olan doğrunun denklemi aşağıdakilerden hangisidir?

- A) $x + 2y = 0$
B) $2x + y + 1 = 0$
C) $x - 2y = 0$
D) $x + 2y + 2 = 0$

1. OTURUM

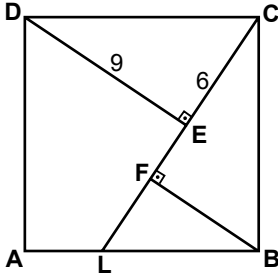
11.



Şekildeki ABCD dörtgeninde $[BE]$, \widehat{ABC} 'nin; $[DF]$, \widehat{ADC} 'nin açıortayıdır. $m(\widehat{BAD}) = 100^\circ$ ve $m(\widehat{BCD}) = 80^\circ$ olduğuna göre $m(\widehat{BEF})$ kaç derecedir?

- A) 10 B) 15 C) 20 D) 25

12.



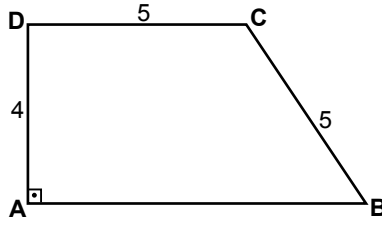
Şekildeki ABCD karesinde $[DE] \perp [CL]$ ve $[BF] \perp [AC]$ 'tir. $|CE| = 6$ cm ve $|DE| = 9$ cm olduğuna göre $|FL|$ kaç santimetredir?

- A) 5 B) 4 C) 2 D) 1

13. Bir dikdörtgenin uzun kenarının uzunluğu, kısa kenarının uzunluğunun 2 katıdır. Bu dikdörtgenin köşegeninin uzunluğu $4\sqrt{5}$ cm olduğuna göre alanı kaç santimetrekaredir?

- A) 16 B) 20 C) 30 D) 32

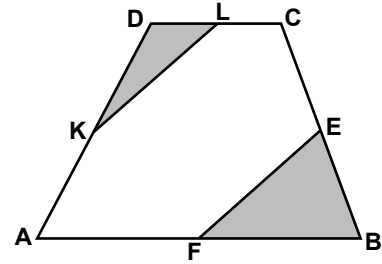
14.



Şekildeki ABCD dik yamuğunda $[AB] \parallel [DC]$ ve $[DA] \perp [AB]$ 'tir. $|AD| = 4$ cm ve $|DC| = |CB| = 5$ cm olduğuna göre $A(ABCD)$ kaç santimetrekaredir?

- A) 20 B) 26 C) 30 D) 40

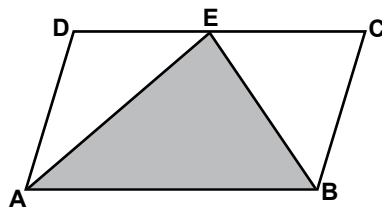
15.



Şekildeki ABCD dörtgeninde K, L, E, F noktaları buldukları kenarların orta noktalarıdır. $A(ABCD) = 60$ cm² olduğuna göre $A(\widehat{DKL}) + A(\widehat{EFB})$ kaç santimetrekaredir?

- A) 30 B) 20 C) 15 D) 10

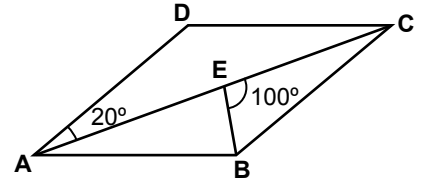
16.



Şekildeki ABCD paralelkenarında, E noktası $[DC]$ üzerindedir. $A(\widehat{AEB}) = 32$ cm² olduğuna göre $A(ABCD)$ kaç santimetrekaredir?

- A) 60 B) 64 C) 72 D) 96

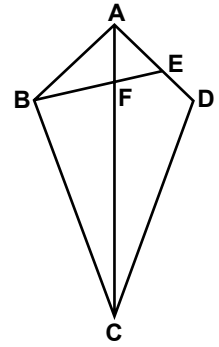
17.



Şekildeki ABCD eşkenar dörtgeninde $[AC]$ köşegenidir. $m(\widehat{DAC}) = 20^\circ$ ve $m(\widehat{BEC}) = 100^\circ$ olduğuna göre $m(\widehat{EBA})$ kaç derecedir?

- A) 80 B) 75 C) 70 D) 65

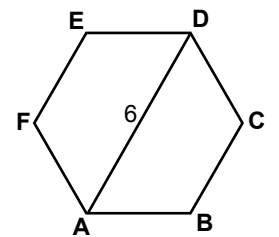
18.



Şekildeki ABCD deltoidinde $|BC| = |CD|$ ve $[AC] \cap [BE] = \{F\}$ 'tir. $3|FE| = 2|BF|$ olduğuna göre $\frac{|AE|}{|ED|}$ nedir?

- A) 3 B) $\frac{5}{2}$ C) 2 D) $\frac{3}{2}$

19.



Şekildeki ABCDEF düzgün altıgeninde $|AD| = 6$ cm olduğuna göre ABCDEF düzgün altıgeninin çevresi kaç santimetredir?

- A) 36 B) 30 C) 24 D) 18

20.

Kenar sayısı 8 olan düzgün çokgenin bir iç açısının ölçüsü kaç derecedir?

- A) 115 B) 125
C) 135 D) 145

1. OTURUM

(164) MATEMATİK – 4

1. $i^{2015} + i^{2016} + i^{2019}$ ifadesi aşağıdakilerden hangisine eşittir?

- A) $-i$ B) $1 - i$
C) $2 - i$ D) $1 - 2i$

2. $z_1 = -3 + x + 5i$,
 $z_2 = 7 + (y + 2)i$ ve $z_1 = z_2$ olduğuna göre $x + y$ kaçtır?

- A) 7 B) 8 C) 12 D) 13

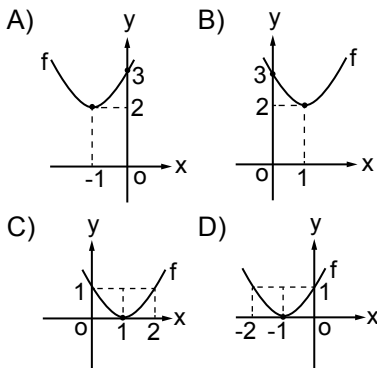
3. İkinci dereceden $2x^2 + (m - 3)x + m + 2 = 0$ denkleminin köklerinin toplamı -4 olduğuna göre köklerinin çarpımı kaçtır?

- A) $\frac{11}{2}$ B) 6 C) $\frac{13}{2}$ D) 7

4. Köklerinden biri $2 + 4i$ olan ikinci dereceden rasyonel katsayılı denklemin köklerinin çarpımı kaçtır?

- A) 20 B) 12 C) -8 D) -12

5. $f: \mathbb{R} \rightarrow \mathbb{R}$, $f(x) = (x - 1)^2 + 2$ fonksiyonunun grafiği aşağıdakilerden hangisidir?



6. $f: \mathbb{R} \rightarrow \mathbb{R}$, $f(x) = -x^2 + 4x + 12$ fonksiyonunun alabileceği en büyük değer kaçtır?

- A) 20 B) 18 C) 16 D) 14

7. $P(x) = (m - 5)x^m + mx^3 + 4$ polinomunun derecesi 4 olduğuna göre bu polinomun katsayılarının toplamı kaçtır?

- A) 10 B) 9 C) 8 D) 7

8. $P(x) = (a + 5)x^2 + (2a - 3)x + 7$ polinomunun $x - 2$ ile bölünmünden kalan 45 olduğuna göre a kaçtır?

- A) 3 B) 4 C) 5 D) 6

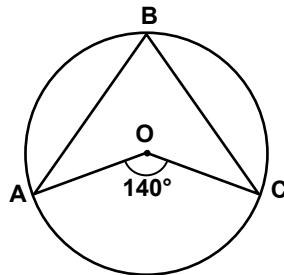
9. $\frac{x^2 - 4}{x + 3} : \frac{x^2 + x - 2}{x^2 + 2x - 3}$ ifadesinin en sade biçimi aşağıdakilerden hangisidir?

- A) $x - 3$ B) $x - 2$
C) $x + 2$ D) $x + 3$

10. $\sqrt{102 \cdot 98 + 4}$ ifadesi aşağıdakilerden hangisine eşittir?

- A) 98 B) 100
C) 102 D) 104

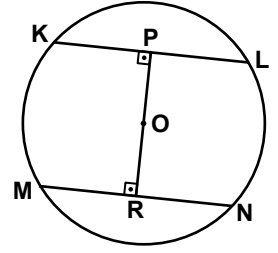
11.



Şekilde A, B ve C noktaları O merkezli çemberin üzerindedir. $m(\widehat{AOC}) = 140^\circ$ olduğuna göre $m(\widehat{ABC})$ kaç derecedir?

- A) 35 B) 40 C) 70 D) 80

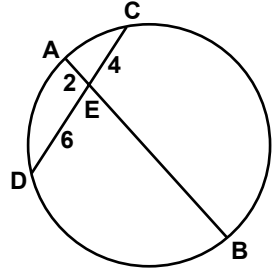
12.



Şekilde K, L, M, N noktaları O merkezli çemberin üzerindedir. $[OR] \perp [MN]$, $[OP] \perp [KL]$, $|KL| = |MN| = 16$ cm, $|OP| = 3x$ cm ve $|OR| = (4x - 2)$ cm olduğuna göre çemberin yarıçapının uzunluğu kaç santimetredir?

- A) 6 B) 8 C) 9 D) 10

13.

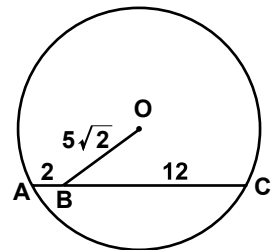


Şekildeki çemberde $[AB]$ ve $[CD]$ kiriştir.

$|AE| = 2$ cm, $|CE| = 4$ cm ve $|DE| = 6$ cm olduğuna göre $|EB|$ kaç santimetredir?

- A) 8 B) 10 C) 12 D) 16

14.



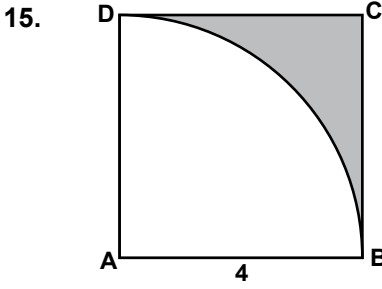
Şekildeki O merkezli çemberde

$|AB| = 2$ cm, $|BC| = 12$ cm ve $|OB| = 5\sqrt{2}$ cm olduğuna göre O noktasının $[AC]$ kirişine uzaklığı kaç santimetredir?

- A) 4 B) 5 C) 6 D) 7

1. OTURUM

(206) PSİKOLOJİ – 1



Şekildeki ABCD karesi ile A merkezli ve 4 cm yarıçaplı çeyrek daire arasında kalan alan kaç santimetrekaredir?

- A) 16 B) 16π
C) $16 - 4\pi$ D) $16 - 16\pi$

16. Ayritlarının uzunlukları 4 cm, 6 cm ve 8 cm olan dikdörtgenler prizması şeklindeki kutunun içine bir ayritının uzunluğu 2 cm olan küplerden en çok kaç tane yerleştirilebilir?

- A) 18 B) 24 C) 30 D) 36

17. Taban ayritlarından birinin uzunluğu 12 cm ve yan yüz yüksekliği 10 cm olan kare dik piramidin hacmi kaç santimetreküptür?

- A) 384 B) 400
C) 450 D) 480

18. Taban alanı 27 cm^2 ve ana doğrusunun uzunluğu 5 cm olan dik dairesel koninin hacmi kaç santimetreküptür? (π 'yi 3 alınız.)

- A) 36 B) 45 C) 54 D) 63

19. Hacmi $36\pi \text{ cm}^3$ olan kürenin yüzey alanı kaç santimetrekaredir? (π 'yi 3 alınız.)

- A) 129 B) 117
C) 112 D) 108

20. Taban çevresi $8\pi \text{ cm}$ ve yüksekliği 3 cm olan dik dairesel silindirin hacmi kaç santimetreküptür? (π 'yi 3 alınız.)

- A) 88 B) 108
C) 144 D) 180

1. Aşağıdakilerden hangisi psikolojinin incelediği konulardan değildir?

- A) Algı
B) Öğrenme
C) İnsan davranışları
D) Ekonomik değişmelerin toplumsal yapıya etkisi

2. Aşağıdakilerden hangisi bilimsel bilginin özelliklerinden değildir?

- A) Sonuçlarının öznel bir nitelik taşıması
B) Araştırmalarında bilimsel yöntemi kullanması
C) Olaylardaki neden – sonuç ilişkisini araştırması
D) Bilimsel genellemelere varmayı hedeflemesi

3. İnsan davranışlarını çevreye uyum süreci olarak tanımlayan, bilincin ne olduğundan çok, ne için olduğuyla ilgilenen psikoloji yaklaşımı aşağıdakilerden hangisidir?

- A) Yapısalcı yaklaşım
B) İşlevselci yaklaşım
C) Hümanistik yaklaşım
D) Psikodinamik yaklaşım

4. Birey toplum etkileşimini inceleyen bilim dalı aşağıdakilerden hangisidir?

- A) Genetik psikoloji
B) Eğitim psikolojisi
C) Sosyal psikoloji
D) Fizyolojik psikoloji

5. Bir futbol karşılaşmasında seyirci durumunda olan bir psikoloğun, insanların duygusal tepkilerini ölçmek için kullanabileceği öncelikli yöntem aşağıdakilerden hangisidir?

- A) Test
B) Anket
C) Doğal gözlem
D) Vaka incelemesi

6. Aşağıdakilerden hangisi organizmanın tanımıdır?

- A) Her türlü canlı
B) Uyarıcı - tepki ilişkileri
C) Duyumların yorumlanması
D) Uyarıcıların duyu organlarını etkilemesi

7. Aşağıdakilerden hangisi yetersiz uyarımın sonuçlarından değildir?

- A) Sanrıların görülmesi
B) Algılama bozuklukları
C) Davranışlarda düzensizlik
D) Zeka testlerindeki puanların artması

8. Aşağıdaki ihtiyaçlardan hangisi toplumsal güdülere neden olur?

- A) Toplumda kabul görmek
B) Dinlenme ihtiyacı
C) Susuzluk
D) Açlık

9. Zamanın, üzüntülü anlarda yavaş, sevinçli anlarda hızlı geçiyormuş gibi algılanması aşağıdakilerden hangisiyle ifade edilir?

- A) Algıda seçicilikle
B) Algıda organizasyonla
C) Subjektif zaman algısıyla
D) Algıda bütünlükle

10. I. Duyu organlarını harekete geçiren her türlü etki
II. Duyumları yorumlama, onları anlamlı hale getirme süreci
III. Uyarıcılar karşısında verilen ani irade dışı tepkiler

Açıklaması yapılan kavramlar sırasıyla aşağıdakilerden hangisidir?

- A) Algı – Davranış – Duyum
B) Uyarıcı – Algı – Refleks
C) İhtiyaç – Güdü – Doyum
D) Duyarsızlaşma- Duyum – Organizma

1. OTURUM

11. Dikkatin bir nesne veya bir olaya çevrilip sadece onunla ilgili uyarıcıların algılanması aşağıdakilerden hangisiyle ifade edilir?

- A) Algıda seçicilik
- B) Algı yanılması
- C) Algı dayanağı
- D) Halüsinasyon

12. “Evde yalnızken buzdolabından gelen bir sesi hırsız olarak algılamak” aşağıdakilerden hangisi-ne örnektir?

- A) Fiziksel illüzyona
- B) Psikolojik illüzyona
- C) Halüsinasyona
- D) Algıda değişmezliğe

13. Öğrenme, tekrar ya da yaşantı sonucu davranışta meydana gelen devamlı bir değişiktir.

Bu tanıma göre aşağıdakilerden hangisi öğrenmeye örnektir?

- A) Örumceğin ağını örmesi
- B) Karıncaların kış hazırlığı yapması
- C) Genize bir şey kaçtığında hapşırılması
- D) Sirkte köpeklerin ateşli çemberin içinden atlaması

14. Beyaz tavşandan korkan bir çocuğun tüm beyaz hayvanlardan korkması, “sütten ağzı yananın yoğurdu üflemesi” deyiminde ifadesini bulur.

Bu durum aşağıdaki kavramlardan hangisiyle açıklanır?

- A) Koşullanmanın sönmesi
- B) Koşullanmanın genellemesi
- C) Koşullanmanın canlanması
- D) Edimsel koşullanma

15. Daktilo yazmaya ve otomobil kullanmaya başlayan bir kimse belli tekrarlarından sonra daha az hata yapmaya başlamıştır.

Burada sözü edilen öğrenme türü aşağıdakilerden hangisidir?

- A) Koşullanma yoluyla öğrenme
- B) Model alarak öğrenme
- C) Sezgisel öğrenme
- D) Motor öğrenme

16. Aşağıdakilerden hangisi belleğin temel işlemlerinden değildir?

- A) Kodlama
- B) Saklama
- C) Düşünme
- D) Çağırma

17. Öğrendiği yabancı dili uzun süre kullanmayan biri zamanla birçok kelimeyi unuttuğunu görür.

Buna göre unutmanın nedeni aşağıdakilerden hangisidir?

- A) Öğrenilenlerin kullanılmaması
- B) Bilinç altına atma
- C) İleriye ket vurma
- D) Organik nedenler

18. Aşağıdakilerden hangisinde düşünmenin payı en azdır?

- A) İki olay arasındaki farklılıkları ortaya koymada
- B) Bellek güçlendirici yöntemleri uygulamada
- C) Şiddetli patlamayla irkilmede
- D) Bir matematik problemini çözmede

19. Varlığımızın, ne durumda olduğumuzun, düşünce ve duygularımızın farkında olmamız aşağıdaki kavramlardan hangisiyle açıklanır?

- A) Düşünme
- B) Duyum
- C) Refleks
- D) Bilinç

20. “Normal zamanında uykuya geçilebilmesine rağmen sık sık uyanarak yeterli uyuyamama” **şeklinde görülen uyku bozukluğu aşağıdakilerden hangisidir?**

- A) Uykuya dalma güçlüğü
- B) Kesintili uyku
- C) Aşırı uyku
- D) Uyurgezerlik

(207) PSİKOLOJİ – 2

1. Aşağıdaki davranışların hangisinde zekanın payı vardır?

- A) Tebeşir tozu yutulup hapşırıldığında
- B) Utangaç bir mizaca sahip olmada
- C) Bir problemi çözmede
- D) Ani bir patlamayla irkilmede

2. Doğuştan zekâca geri olan bireye, iyi çevre koşulları, eğitim olanakları sağlansa bile bu birey üstün zekâlı yapılamaz.

Bu açıklamadan hareketle aşağıdakilerden hangisi söylenebilir?

- A) Eğitim yoluyla her bireyin zekâ düzeyi istenilen seviyeye yükseltilebilir.
- B) Zekâ üzerinde kalıtımın etkisi, çevrenin etkisinden daha çoktur.
- C) İnsan kendi gayretiyle zekasını istenen seviyeye getirebilir.
- D) Zekâ üzerinde sadece çevrenin etkisi vardır.

3. İlk defa test uygulanan çocukla, daha önce test uygulanmış çocuk arasında başarı farkı olmaktadır.

- Kültürel bakımdan farklı çevrelerden gelen kimselerde test sonucu gerçeği tam yansıtmaz.
- Zeka testlerinden elde edilen sonuca ne derece güvenmek gerektiği bilinemez.

Verilenler zeka testleriyle ilgili aşağıdakilerden hangisini dile getirmektedir?

- A) Zeka testlerinin eleştirisini
- B) Zeka kalıtım ilişkisini
- C) Zeka testlerinin eğitimdeki etkisini
- D) Zeka testlerinin vazgeçilmezliğini

4. Zeka bölümü 70-89 olan bir kimsenin zeka durumuyla ilgili olarak aşağıdakilerden hangisi söylenebilir?

- A) Deha
- B) Üstün zekalı
- C) Normal üstü
- D) Düşük zekalı

1. OTURUM

5. Aşağıdakilerden hangisi yaratıcı düşünmeye örnek olur?

- A) Verilen bir ödevin zamanında yapılması
- B) Yaşadığımız çevrenin temiz tutulması
- C) Bir kişinin yeni bir şarkı bestelemesi
- D) Trafik kurallarına uyulması

6. Bireyin tezcanlılık gibi doğuştan getirdiği mizaç özellikleri ile sonradan kazandığı karakter özelliklerinin birbirleriyle etkileşiminden oluşan bir bütünlüktür.

Açıklaması yapılan kavram aşağıdakilerden hangisidir?

- A) Zeka
- B) Kişilik
- C) Düşünce
- D) Çatışma

7. • Kişi yedisinde neyse yetmişinde de aynıdır.
• Huylu huyundan vazgeçmez.
• Çan çıkar huy çıkmaz.

Verilen atasözleri kişide bulunan aşağıdaki özelliklerden hangisini ifade etmektedir?

- A) Bellek
- B) Yetenek
- C) Zeka
- D) Mizaç

8. Psikodinamik kurama göre, aşağıdakilerden hangisi kişiliği oluşturan ana etmenlerdendir?

- A) Bilinçaltı
- B) Beden yapısı
- C) Yaşam tecrübeleri
- D) İnsanın kendi yaşamını anlamlandırması

9. Kişiliğin ölçülmesinde kişinin sakladığı iç dünyasını, "mürekkep leke testi" veya "resim yorumlama testleri" ile ortaya çıkarılması aşağıdakilerden hangisiyle gerçekleşir?

- A) Anketler
- B) Projektif testler
- C) Değerlendirme ölçekleri
- D) Kişilik envanterleri

10. Sağlıklı bireyden aşağıdaki davranışlardan hangisi beklenmez?

- A) Normal yaşantısını sürdürmemesi
- B) İnsanlarla iletişim kurabilmesi
- C) Gerçeği olduğu gibi kabullenmesi
- D) Görev ve sorumluluklarını yerine getirebilmesi

11. Havanın çok soğuk olması nedeniyle sokağa çıkamayan kişinin durumu hangi tür engele örnektir?

- A) Fiziksel
- B) Ruhsal
- C) Toplumsal
- D) Hukuksal

12. "Yaz tatilini aynı anda iki ayrı yerde geçirmek isteyen birinin karar verememe hali" aşağıdakilerden hangisine örnektir?

- A) Kaçınma - kaçınma çatışması
- B) Yaklaşma - kaçınma çatışması
- C) Yaklaşma - yaklaşma çatışması
- D) Bahane bulma

13. Aşağıdakilerden hangisi psikolojik stres nedenlerindedir?

- A) Çevre kirliliği
- B) Boşanma
- C) Doğal afetler
- D) Hızlı değişen yaşam koşulları

14. Aşağıdakilerden hangisinin stresle başetmede olumlu etkisi vardır?

- A) Telaşlı ve aceleci olmak
- B) Düzensiz yaşamaya çalışmak
- C) Zamana karşı yarışa girmek
- D) Kendisi için zaman ayırmak

15. "Sporda başarılı olamamış birinin çaba harcayarak derslerinde başarılı olması" hangi savunma mekanizmasıyla açıklanır?

- A) Bastırma
- B) Yansıtma
- C) Ödünleme
- D) Özdeşim kurma

16. • Açık alan korkusu
• Kapalı alan korkusu
• Yalnızlıktan korkma

Verilen örnekler nevrotik bozukluklardan hangisine aittir?

- A) Fobi
- B) Obsesyon
- C) Çoklu kişilik
- D) Bellek yitimi

17. Bir sahne eserindeki rollerin paylaşarak veya kişinin benimsediği rolü oynayarak bilinçaltı tikanıklıklar giderilir. Bilinçaltı yararlı bir şekilde boşaltılmış olur.

Açıklanan anormal davranışın tedavi yöntemi aşağıdakilerden hangisidir?

- A) İş terapisi
- B) Psikodrama
- C) Grup tedavisi
- D) Narkoanaliz yöntemi

18. Aşağıdakilerden hangisi sosyal psikolojinin inceleme konularındandır?

- A) Kişiliğin oluşumu
- B) Zekayı belirleyen etkenler
- C) Anormal davranışın tedavisi
- D) Bireyin sosyal çevre içindeki davranışları

19. Kimlik duygusu kazanamamış birey davranışlarında istikrarsız olup bocalama içindedir ve başkalarıyla ilişkilerinde sorunludur. Böyle bir kişinin ruh sağlığı da bozuktur.

Parçada aşağıdakilerden hangisi vurgulanmaktadır?

- A) Kimlik-özdeşim kurma ilişkisi
- B) Kimlik bunalımından kurtulma yolları
- C) Kimlik oluşumunun önemli olmadığı
- D) Kimlik ile ruh sağlığı arasındaki ilişki

20. Tek başınayken yaptığımız bazı davranışları diğer insanların yanında yapmamamızın nedeni aşağıdakilerden hangisidir?

- A) Grubun sayısı
- B) Sosyal etki
- C) Çatışma
- D) Aşırı uyarılma

1. OTURUM

1. Toplumsal olgu, toplumsal ilişkiler sonucunda aynı alanda gerçekleşen birçok toplumsal olayın genel adıdır.

Buna göre aşağıdakilerden hangisi toplumsal olguya örnek olur?

- A) Göç
- B) İstanbul'un Fethi
- C) Kurtuluş Savaşı
- D) Malazgirt Savaşı

2. Aşağıdakilerden hangisi sosyoloji biliminin ilkelerinden değildir?

- A) Var olan ile değil, olması gereken ile ilgilenme
- B) Bireysel değil, toplumla ilgili sorunlarla ilgilenme
- C) Bilimsel araştırmalarda önyargılı düşüncelerden uzak durmaya çalışma
- D) Bilimsel yöntem ve veri toplama tekniklerini kullanarak bilimsel bilgilere ulaşma

3. Sosyolojinin birey davranışlarıyla ilgilenmeyip, toplumsal sorunlarla ilgilenmesi aşağıdaki bilimlerden hangisiyle farkını dile getirir?

- A) Tarih
- B) Psikoloji
- C) Coğrafya
- D) Siyaset

4. Özlerin birleşerek kentleri oluşturmalarının nedenlerinden biri, ortak düşmana karşı korunma ihtiyacıdır. Bu nedenle kentler, düşmandan korunmaya elverişli arazilerde kurulmuştur.

Buna göre kentlerin kurulmasında aşağıdakilerden hangisinin etkisi vurgulanmıştır?

- A) Aynı dine inanmalarının
- B) Nüfus fazlalığının
- C) Savunma ihtiyacının
- D) Pazar yerinin

5. Aşağıdakilerden hangisi bilimsel yöntem aşamalarından değildir?

- A) Konu tespiti
- B) Gözlem
- C) Deney
- D) Önyargı oluşturmak

6. Sosyolog metafizik konularla ilgilenmeyip, yeri ve zamanı belirli olaylardan hareket ederek çalışmasını sürdürür.

Verilen açıklama bilimsel çalışmalarda uyulması gereken hangi ilkeyi vurgular?

- A) Objektiflik ilkesi
- B) Somutluk ilkesi
- C) Nedensellik ilkesi
- D) Bilmediğini var saymak ilkesi

7. Aşağıdakilerden hangisi bilimin temel niteliklerinden değildir?

- A) Öznel olma
- B) Evrensel olma
- C) Sistemli olma
- D) Genelleyici olma

8. "Sınırları belirlenmiş tek bir konuyu, belirli bir planla ve tüm yönleriyle derinlemesine inceleme tekniği" aşağıdakilerden hangisidir?

- A) Anket
- B) Monografi
- C) Görüşme
- D) İstatistik analizler

9. Toplumsal ilişki; birbirinden haberdar olan en az iki kişi arasında, belirli bir zaman sürecinde, bir amaca yönelik olarak gerçekleşen karşılıklı etkileşim sonucu kurulan bağıdır.

Buna göre aşağıdaki örneklerden hangisinde toplumsal ilişki yoktur?

- A) Öğretmenin ders anlatması
- B) İki arkadaşın konuşması
- C) Bireyin kendi kendisine kızmaması
- D) İki ailenin birbirleriyle sohbet etmesi

10. Doktor Ayşe Hanım, Mahmut Bey'in eşi, Gizem'in annesi, aynı zamanda çevreyi korumayla ilgili bir vakfın üyesidir.

Bu açıklamada aşağıdakilerden hangisi vurgulanmıştır?

- A) Statülerin zamanla değişimi
- B) Birden fazla statünün rolleri zorlaştırdığı
- C) Anahtar statünün önemi
- D) Bireylerin birden fazla statüye sahip olabileceği

11. Aşağıdakilerden hangisi "resmi" normlardandır?

- A) Gelenekler
- B) Adetler
- C) Görenekler
- D) Hukuk kuralları

12. • Sokakta gezenler
• Kırmızı ışıkta bekleyenler
• Otobüs kuyruğunda bekleyenler
Aynı mekanı paylaşan bu tür insan birliktelikleri aşağıdakilerden hangisine örnektir?

- A) Toplumsal grup
- B) Toplumsal kurum
- C) Toplumsal yığın
- D) Toplumsal kategori

13. Aşağıdakilerden hangisi birincil toplumsal ilişkilerin özelliklerindedir?

- A) Çıkara dayalı olması
- B) Resmi kurallara dayanması
- C) Duygusal boyutlu olması
- D) Yazılı normlara dayalı olması

14. Aşağıdakilerden hangisi insanların toprağa yerleşme nedenlerinden değildir?

- A) Toplayıcılık ve avcılık alanlarının artması
- B) Üretim araç ve gereçlerinin geliştirilmesi
- C) Hayvanların evcilleştirilmesi
- D) Bitkilerin yetiştirilmesi

1. OTURUM

15. Köy toplumsal yapısı ile kent toplumsal yapısının özellikleri aşağıdakilerden hangisinde yanlış verilmiştir?

		KÖY	KENT
A)	Toplumsal ilişki biçimi	Birincil ilişkiler hakimdir	İkincil ilişkiler hakimdir
B)	Toplumsal kontrol	Hukuk kuralları etkilidir	Gelenekler etkilidir
C)	İş bölümü	Cinsiyete dayalı iş bölümü vardır	Teknik iş bölümü ve uzmanlaşma vardır
D)	Ekonomi	Tarım ve hayvancılığa dayalıdır	Sanayi hizmet ve ticarete dayalıdır

16. Aşağıdakilerden hangisi hızlı kentleşmenin doğurduğu sorunlardan değildir?

- A) İşsizlik
- B) Gecekondulaşma
- C) Kültürel çözümler
- D) Tüketim ürünlerinin bolluğu

17. Aşağıdakilerden hangisi milleti oluşturan unsurlardan değildir?

- A) Bencillik
- B) Soy birliği
- C) Din birliği
- D) Ekonomi birliği

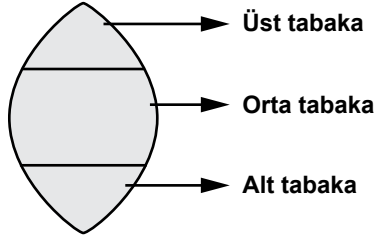
18. Aşağıdakilerden hangisi kapalı tabakalaşmanın özelliklerindedir?

- A) Tabakalar arası geçiş serbesttir.
- B) Yapı dikey hareketliliğe açıktır.
- C) Bireylerin yer alacağı tabaka doğumla belirlenir.
- D) Tabaka değiştirmede yasal ve geleneklerden kaynaklanan bir engel yoktur.

19. Aşağıdakilerden hangisi dikey hareketliliğe örnektir?

- A) Bir öğretmenin milletvekili olması
- B) Bakkallık yapan birinin manavlığa başlaması
- C) Ankara valisinin İstanbul'a vali olarak tayin edilmesi
- D) Bir işçinin çalıştığı fabrikadan çıkıp başka bir fabrikada çalışması

20.



Toplumsal tabakalaşma piramidi yukarıdaki gibi olan bir ülkelye ilgili olarak hangi yargıya ulaşabiliriz?

- A) Orta tabakayı oluşturan bireylerin sayısı azalmıştır.
- B) Ekonomik refahı gelişmiş bir toplumdur.
- C) Tabakalar arası gelir dağılımı eşittir.
- D) Üst tabaka ile alt tabaka dengesiz dağılmıştır.

(209) SOSYOLOJİ – 2

1. Aşağıdaki kültürel öğelerden hangisi nitelik yönünden diğerlerinden farklıdır?

- A) Değer yargıları
- B) Görgü kuralları
- C) Yazılı ve yazısız kurallar
- D) Okul ve fabrika binaları

2. Bir sosyolog Japon toplumundaki düşün törenleri ile Türk toplumundaki düşün törenlerini inceleyerek karşılaştırma yapmış ve iki toplum arasında birçok farklılık olduğunu ortaya koymuştur.

Bu durum kültürün hangi özelliğine örnektir?

- A) Toplumdan topluma değişmesi
- B) Coğrafi koşullardan etkilenmesi
- C) Kültürün tarihsel süreçte oluştuğu
- D) Aynı toplumda zamanla değişmesi

3. Bireyin içinde yaşadığı toplumun kurallarını ve değerlerini öğrenme süreci aşağıdaki kavramlardan hangisiyle ifade edilir?

- A) İşbölümü
- B) Kalabalık
- C) Sosyalleşme
- D) Kültürel gecikme

4. Ülke yönetimi ile ilgili yasa ve yönetim ilişkilerinin düzenlenmesi aşağıdaki kurumlardan hangisinin temel görevlerindedir?

- A) Din
- B) Siyaset
- C) Aile
- D) Eğitim

5. Sevgi, saygı gibi duygusal ihtiyaçların giderilmesi ailenin hangi temel işlevlerindedir?

- A) Toplumsallaştırma
- B) Ekonomik
- C) Psikolojik
- D) Neslin devamı

6. Aşağıdaki evlilik türlerinden hangisinde “eşin seçildiği grup” ölçütü olarak alınmıştır?

- A) Egzogami
- B) Matrilokal
- C) Patrilokal
- D) Neolokal

7. Aşağıdakilerden hangisi Türk Medeni Kanunu'nda belirtilen boşanma nedenlerinden değildir?

- A) Terk
- B) Cana kast
- C) Suç işleme
- D) Kadının çalışması

8. Güneş, ay, yıldızlar gibi doğa güçlerine inanma hangi dinin özelliğidir?

- A) Fetişizm
- B) Natürizm
- C) Politeizm
- D) Monoteizm

9. Aşağıdakilerden hangisi laik devletin özelliklerinden değildir?

- A) Devletin bütün inanış biçimlerine eşit uzaklıkta olması
- B) Bireylerin din ve vicdan özgürlüğüne sahip olması
- C) Devletin bireylerin inanç özgürlüğünü güvenceye alması
- D) Toplumsal yaşamın dini kurallara göre oluşturulması

1. OTURUM

10. İnsanların ihtiyaç duydukları mal ve hizmetleri elde etmek için bir nesnenin yapısında, biçiminde veya yerinde değişiklik yapma etkinliği üretimdir.

Buna göre aşağıdakilerden hangisi üretime örnek değildir?

- A) Yoğurdu yemek
B) Sütten peynir yapmak
C) Zeytinden yağ elde etmek
D) Çimentoyu inşaatta kullanmak

11. Mal ve hizmetlerin fiyatlarının sürekli bir biçimde artması sonucu paranın alım gücünün düşmesi aşağıdaki kavramlardan hangisiyle ifade edilir?

- A) Enflasyon B) Devalüasyon
C) Deflasyon D) Revalüasyon

12. Aşağıdakilerden hangisi devleti meydana getiren unsurlardan değildir?

- A) Vatan B) Halk
C) Kamuoyu D) Egemenlik

13. Aşağıdakilerden hangisi demokratik yönetimin ölçütlerinden değildir?

- A) Eşitlik B) Özgürlük
C) Adalet D) İdeolojik baskı

14. Partilerin aldıkları oy ölçüsünde milletvekili çıkardıkları, kendilerini destekleyen seçmen oranına göre parlamentoda temsil edildikleri seçim sistemi aşağıdakilerden hangisidir?

- A) Çoğunluk sistemi
B) Nispi temsil sistemi
C) Tek turlu çoğunluk sistemi
D) İki turlu çoğunluk sistemi

15. Belli bir alanda daha iyiye ve mükemmele doğru değişmeyi dile getiren, eskiye oranla daha iyi duruma geçilmesini ifade eden kavram hangisidir?

- A) İsyân B) Devrim
C) İlerleme D) İhtilal

16. I. Kültür
II. Fizik çevre
III. Kitle iletişim araçları

Verilenlerden hangileri toplumsal değişmeyi etkileyen faktörlerdendir?

- A) I ve II B) I ve III
C) II ve III D) I, II ve III

17. Toplumların hiçbir baskı olmadan, belirli bir programa dayanmadan kendiliğinden, iç etkenler veya başka kültürlerle temas sonucu bazı değerlerin benimsenip kendi kültürümüze aktarılmasıyla oluşan toplumsal değişme tipidir.

Açıklaması verilen toplumsal değişme tipi aşağıdakilerden hangisidir?

- A) Demokratik planlı değişme
B) Müdahale yoluyla değişme
C) Serbest sosyal değişme
D) Baskı yolu ile değiştirme

18. "Toplumu meydana getiren farklı maddi ve manevi unsurların uyumlu ve dinamik bir bütün oluşturacak şekilde birbirini tamamlamasıdır." şeklinde tanımlanan kavram aşağıdakilerden hangisidir?

- A) Orta tabaka genişlemesi
B) Toplumsal bütünleşme
C) Toplumsal değişme
D) Ekonomik büyüme

19. Aşağıdakilerden hangisi toplumsal çözülmenin nedenlerinden değildir?

- A) Yeni koşullara uygun normların geliştirilmesi
B) Demokratik kurumlaşma yetersizliği
C) İş bölümü yetersizliği
D) Örgütlenme yetersizliği

20. Aşağıdakilerden hangisi Cumhuriyet Dönemi'nde ekonomik alanda yapılan bir atılımdır?

- A) Halifeliğin kaldırılması
B) İzmir İktisat Kongresi
C) Medeni Kanun
D) Şapka Kanunu

(242) İNGİLİZCE – 3

1 - 20. sorularda boş bırakılan yere uygun gelen kelime veya ifadeyi işaretleyiniz.

1. She doesn't like meat, ---- does his mother.

- A) or B) nor C) but D) and

2. A: Where is ---- bag?
B: Your bag is over there.

- A) his B) mine
C) their D) my

3. Serap didn't study for the exam, ---- she got a low mark.

- A) so B) nor
C) but D) or

4. ---- men are the oldest workers of the company.

- A) This B) That
C) These D) They

5. Mary is at work. She is working ----.

- A) tomorrow B) sometimes
C) yesterday D) at the moment

6. I can't buy this t-shirt because I haven't got ---- money with me now.

- A) some B) any
C) many D) a few

7. A: Would you like some coke?
B: No, thanks. ---- coke.

- A) I love B) I like
C) I hate D) I enjoy

8. I am new here so I have ---- friends in this city.

- A) any B) a few
C) a little D) much

1. OTURUM

9. There is a - - - - with stars on it.

- A) round yellow plastic ball
- B) yellow round ball plastic
- C) plastic ball yellow round
- D) ball plastic round yellow

10. The post office - - - - at 5 p.m. every weekday.

- A) studies B) works
- C) comes D) closes

11. How often - - - - Akın - - - - to the theatre?

- A) is / going B) does / go
- C) were / going D) do / ride

12. I'm at the bus stop. I - - - - for the bus now.

- A) am going to wait
- B) have waited
- C) was waiting
- D) am waiting

13. Betül - - - - at home two hours later.

- A) is B) was
- C) has been D) is going to be

14. - - - - is the longest river in the world?

- A) Who B) Why
- C) What D) When

15. - - - - is your little sister?

- A) Who B) What time
- C) When D) How often

16. A: - - - - you like going out with your friends?

B: Yes, I - - - - .

- A) Do / does B) Does / does
- C) Does / do D) Do / do

17. A: How often do you sleep late?

B: - - - - .

- A) Last year
- B) Once a week
- C) Next weekend
- D) At the moment

18. A: - - - - ?

B: He works at a hospital.

- A) When does Ali go to work
- B) How does Ali go to work
- C) Where does Ali work
- D) Why does Ali work

19. A: What are you doing right now?

B: - - - - .

- A) I am fixing my car
- B) He is walking on the road
- C) You are always telling lies
- D) We like watching scary movies

20. A: Do you have any plans for the weekend?


B: Yes, - - - - .

- A) I went to İstanbul to visit my friend
- B) I usually go shopping on Tuesdays
- C) I am going to drive to Ankara
- D) I have gone to New York City

(242) ALMANCA – 3

1 - 15. sorularda boş bırakılan yere uygun gelen ek, kelime veya ifadeyi işaretleyiniz.

1.



Da ist eine - - - - .

- A) Kühlschrank
- B) Auto
- C) Waschmaschine
- D) Schrank

2. Ich werde - - - - morgen anrufen.

- A) du B) dir
- C) dein D) dich

3. Susanne sitzt auf dem - - - - .

- A) Sofa B) Straße
- C) Kino D) Badezimmer

4. Du schreib- - - - - sehr schöne Gedichte. Kann- - - - - du sie mir vorlesen?

- A) -e / -st B) -st / -st
- C) -st / -e D) -en / -e

5. Die Mutter sagt ihrer Tochter, - - - - es regnet.

- A) denn B) um
- C) so D) dass

6. Ein fleißig - - - - - Schüler kann Medizin studieren.

- A) -er B) -e
- C) -es D) -en

7. Die jung- - - - - Dame tanzt sehr schön. (Nominativ)

- A) -em B) -e
- C) -en D) -es

8. Hasan - - - - heute nicht kommen, weil er krank ist.

- A) werde B) werden
- C) wird D) wirst

9. sprechen, - - - - , gesprochen (Präteritum)

- A) sprach B) spricht
- C) sprichst D) spreche

10. Ich komme - - - - - İstanbul und fahre - - - - - Antalya weiter.

- A) bis / zum B) von / nach
- C) aus / ins D) nach / zur

1. OTURUM

11.



Wie ist das Wetter?
Es - - - -.


- A) ist sonnig B) regnet
C) schneit D) ist windig

12. A: - - - - sitzt die Katze?

B: Vor - - - - Fenster. (das Fenster, Dativ)

- A) Wo / dem B) Was / das
C) Wer / der D) Wem / den

13.



A: Wo ist der Hund?
B: Er ist - - - - dem Sofa.

- A) vor B) hinter
C) auf D) neben

14. Unser Lehrer sagt, - - - - wir viel lernen sollen.

- A) weil B) denn
C) dass D) aber

15. Mutter : Ayşe, hast du - - - - angezogen?
Ayşe : Ja, Mutter.

- A) dir B) mir C) dich D) sein

16. Verilen sözcüklerden bir grup oluşturulduğunda hangisi farklıdır?

- A) der Apfelbaum
B) der Fluss
C) der Wald
D) der Tannenbaum

17. Hangi seçenekte sıfatların zıt anlamlısı doğru verilmiştir?

- A) reich x arm B) hoch x warm
C) klein x lang D) dünn x schnell

18. Aşağıdakilerden hangisi "Kugel-" kelimesini tamamlamaktadır?

- A) -stift B) -schreiber
C) -tasche D) -glas

19.



Was ist ihr Beruf?

- A) Arzt B) Lehrer
C) Ärztin D) Lehrerin

20. Aşağıdakilerden hangisi "Kinder-" kelimesini tamamlamaktadır?

- A) -haus B) -glas
C) -tasche D) -garten

(242) FRANSIZCA – 3

1 - 15. sorularda boş bırakılan yere uygun gelen kelime veya ifadeyi işaretleyiniz.

1. - - - - ont combien de chats et de chiens?

- A) Nous B) Vous
C) Ils D) Elle

2. Hier soir, - - - - est allé au concert de Nilüfer.

- A) elle B) il C) je D) tu

3. Çetin - - - - ne voyage pas beaucoup, préfère lire des magazines.

- A) qui B) où C) que D) dont

4. Le village - - - - j'habite est tranquille.

- A) dont B) qui
C) donc D) où

5. Le film - - - - je suis allé voir samedi dernier était excellent.

- A) qui B) dont
C) où D) que

6. - - - - il pleut, Pierre prend parfois son parapluie.

- A) Quand B) Pourquoi
C) Comment D) Combien

7. Ils se sont promenés dans les rues de Mardin - - - - deux semaines.

- A) au B) il y a
C) aux D) dans

8. Zeynep aime faire du - - - - à Palandöken.

- A) boxe B) natation
C) ski D) photographie

9. - - - - , Nicole ira à la plage pour faire de la peinture.

- A) Lundi dernier
B) Hier
C) Demain
D) Pendant

10. La ville - - - - tu parles est au nord de la France.

- A) que B) dont
C) où D) qui

11. Les jeunes mangent - - - - le match de foot à la télé.

- A) en regardant
B) écouter
C) en buvant
D) regarder

12. Le professeur - - - - du thé porte une belle veste.

- A) jouent B) en jouant
C) boire D) buvant

1. OTURUM

13. Paul fait des petites réparations à la maison en ---- de la musique.

- A) voyageant B) écoutant
C) dansant D) sachant

14. Ils ne vont pas ---- la plage ---- moto.

- A) au / en B) à / à
C) en / à D) en / aux

15. Pour acheter de la viande, je vais à ----.

- A) l'épicerie B) la librairie
C) la boucherie D) le restaurant

16. "Mon mari et ma fille font des exercices physiques." cümlesinde altı çizili sözcüklerin yerine aşağıdaki şahıs zamirlerinden hangisi konulabilir?

- A) Ils B) Nous
C) Vous D) Elles

17. Le pâtissier ---- du gâteau.

- A) répare B) soigne
C) répond D) fait

18. Nous ---- passé nos vacances d'hiver en Autriche.

- A) avez B) avons
C) sont D) sommes

19-20. sorularda verilen resme göre doğru ifadenin bulunduğu seçeneği işaretleyiniz

19.



S'il pleut, je mets ----.

- A) des chaussettes
B) une chemise
C) un imperméable
D) des chaussures

20.



Il est ----.

- A) boulanger B) médecin
C) journaliste D) professeur

(243) İNGİLİZCE - 4

1 - 20. sorularda boş bırakılan yere uygun gelen kelime veya ifadeyi işaretleyiniz.

1. I have an important meeting ---- Tuesday.

- A) on B) in C) at D) to

2. He will be at the airport ---- 9:00 pm.

- A) in B) on C) at D) of

3. Melisa will make a presentation on global warming ---- week.

- A) last B) previous
C) yesterday D) next

4. Most of the women think that career is ---- than marriage nowadays.

- A) the most important
B) more important
C) importantly
D) important

5. Martin is ---- boy I have ever seen.

- A) talented
B) most talented
C) more talented
D) the most talented

6. Where is ---- mountain in the world?

- A) the highest B) higher than
C) higher D) high

7. ---- students do their homework ----.

- A) Careful / careful
B) Carefully / careful
C) Careful / carefully
D) Carefully / carefully

8. Today, he feels ---- than yesterday.

- A) the best B) better
C) best D) good

9. Turtles move ---- while rabbits can move ----.

- A) quickly / slow
B) quick / slowly
C) fast / slowly
D) slowly / fast

10. You should eat ---- to lose weight.

- A) much B) less
C) more D) many

11. My house is ---- than Mehmet's but his house is ---- than mine.

- A) expensive / big
B) expensive / the biggest
C) more expensive / bigger
D) the most expensive / bigger

12. He had breakfast ---- because he was late for the school.

- A) quickly B) easily
C) accurately D) sincerely

13. It is 11 a.m. now and İpek has not woken up ----.

- A) for B) since
C) yet D) just

14. You must speak ---- in hospitals and libraries.

- A) quietly B) loudly
C) sincerely D) suddenly

1. OTURUM

15. We should eat more fruit and
----- to have a healthy life.

- A) snacks B) chips
C) chocolate D) vegetable

16. Mary has lived in England for
20 years, so he ----- speak
English well.

- A) would B) could
C) can D) may

17. In Ramadan Feast, children
----- their relatives, neighbours
and get candies in Turkey.

- A) watch B) play
C) live D) visit

18. A: I have a terrible headache
for hours.

B: I think -----.

- A) you can be a nurse
B) you must go to school
C) you can study English
D) you should see a doctor

19. A: ----- I use your phone? I
forgot mine at home.

B: Sure.

- A) Must B) May
C) Should D) Would

20. A: ----- you ----- your
homework?

B: No, not yet.

- A) Have / done
B) Had / doing
C) Has / done
D) Have / did

(243) ALMANCA – 4

1 - 16. sorularda boş bırakılan
yere uygun gelen ek, kelime
veya ifadeyi işaretleyiniz.

1. Melone ist ein -----.

- A) Gemüse B) Suppe
C) Obst D) Salat

2. Donnerstag, -----, Samstag.


- A) Dienstag B) Freitag
C) Mittwoch D) Sonntag

3. Vater : Markus, ----- deine
Zähne. (Emir kipi)

Markus: Ja, Vater.

- A) putz B) putzen
C) putzt D) geputzt

4.



Ağrı

Erciyes

Der Berg Ağrı ist ----- als der
Berg Erciyes.

- A) klein B) hoch
C) kleiner D) höher

5. A: ----- lebt ihr in Ankara?

B: Wir leben seit fünf Jahren in
Ankara.

- A) Bis wann B) Wo
C) Seit wann D) Wie oft

6. Mein Bruder ----- Auto fahren.

- A) kann B) sollen
C) sollst D) können

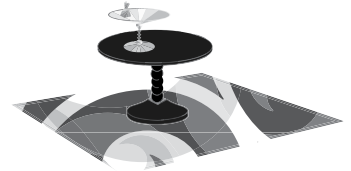
7. ----- Bleistift, ----- Heft, -----
Tasche

- A) die / der / das
B) der / das / die
C) das / der / die
D) der / die / das

8. Der Bus kommt ----- Antalya.

- A) zu B) bei C) ins D) aus

9.



Der Tisch ist ----- dem Teppich.

- A) auf B) neben
C) unter D) im

10. Im Sommer ist es in Antalya
sehr -----.

- A) kalt B) kühl
C) heiß D) wärmer

11. Hasan und Peter sind ----- alt.

- A) gleichen B) klein
C) groß D) gleich

12. Sibel sagt, ----- sie in den
Sommerferien nach Deutschland
fahren wird.

- A) denn B) dass
C) um D) weil

13. Helga ist ----- als Markus.

- A) fleißig
B) fleißige
C) fleißiger
D) am fleißigsten

14. Wer hat diesen Roman -----?

- A) lesen B) lese
C) ließt D) gelesen

15. A: ----- ist Ahmet krank?

B: Weil er kaltes Wasser
getrunken hat.

- A) Warum B) Woher
C) Wie viel D) Was

16. Präsens Präteritum Perfekt
laufen ----- gelaufen

- A) laufe B) lief
C) laufen D) läuft

1. OTURUM

17.



Wie spät ist es?

- A) Zehn vor drei
B) Zehn nach drei
C) Viertel vor drei
D) Viertel nach drei

18. morgen / Wir / Prüfung / eine /
1 2 3 4

haben
5

- A) 2 / 1 / 3 / 4 / 5
B) 2 / 4 / 5 / 1 / 3
C) 2 / 5 / 1 / 4 / 3
D) 2 / 3 / 4 / 1 / 5

19.



Was ist das?

- A) Ofen
B) Waschmaschine
C) Fernseher
D) Kühlschrank

20. Aşağıdaki verilenlerden hangisi sıfattır?

- A) schreiben B) lang
C) Tomaten D) Autos

(243) FRANSIZCA – 4

1 - 18. sorularda boş bırakılan yere uygun gelen kelime veya ifadeyi işaretleyiniz.

1. - - - - pouvons acheter des billets à moitié prix.

- A) Fatih et moi
B) Esra et toi
C) Fatih et Esra
D) Fatih

2. J'ai les yeux verts, Ferhat et Demet, - - - - ont les yeux bleus.

- A) elle B) ils C) il D) elles

3. Ne prends pas ces livres-ci, mais - - - - .

- A) celles-là B) ceux-là
C) celui-là D) celle-ci

4. Colette n'a pas de lunettes de soleil, mais elle porte souvent - - - - de sa sœur.

- A) celle-là B) ceux-ci
C) celles D) celui

5. Emir mesure 1m 82. Turgay mesure 1m 75.

Emir est - - - - grand que Turgay.

- A) plus B) aussi
C) moins D) autant

6. Mme Yıldız a trois fils. Mme Toprak a trois fils.

Mme Yıldız a - - - - de fils que Mme Toprak.

- A) aussi B) plus
C) moins D) autant

7. L'homme - - - - grand du monde encore vivant avec 2m 51 est Sultan Kösen.

- A) la plus B) les moins
C) le plus D) la moins

8. A: Ce sont vos vestes ?
B: Oui, ce sont - - - - .

- A) les tiens B) les miennes
C) les leurs D) les siens

9. A: Ma voiture est rapide. Et la tienne?

B: - - - - aussi est rapide.

- A) La mienne B) Les miennes
C) Le mien D) Les miens

10. - - - - je suis malade je bois souvent du jus d'orange.

- A) Quand B) Où
C) Combien D) Comment

11. Lorsque l'agent de police a sifflé, je garais - - - - .

- A) notre clé B) son tableau
C) ta fenêtre D) mon camion

12. Quand je me sens fatigué, je - - - - une douche.

- A) prenais B) prend
C) prends D) as pris

13. A: Tu bois - - - - ?

B: Non merci, je n'en bois pas.

- A) des olives
B) du thé
C) des pommes
D) de la salade

14. Un - - - - de Van Gogh a été volé dans un musée du Caire.

- A) déclaration B) tarte
C) tableau D) poche

15. Si vous receviez une lettre - - - -, que feriez-vous?

- A) sportif B) anonyme
C) prudent D) violent

16. Pour déclarer un vol, on va - - - - .

- A) au commissariat de police
B) à la pharmacie
C) à la mairie
D) au café

17. - - - - est une personne qui vole le bien d'autrui.

- A) Le vendeur
B) Le peintre
C) Le photographe
D) Le voleur

1. OTURUM

18. Si tu vas - - - - Bodrum, tu peux voyager en bateau.

- A) en B) à la
C) à D) aux

19.



Verilen resme göre doğru ifadenin bulunduğu seçeneği işaretleyiniz.

- A) Il est beau et il est sérieux.
B) Il est chauve et il a une moustache.
C) Il est barbu et il est souriant.
D) Il est jeune et il porte une cravate.

20. "Le train est entré dans la gare." cümlesinde hangi zaman kullanılmıştır?

- A) Passé composé
B) Futur
C) Futur proche
D) Présent

(244) İNGİLİZCE – 5

1 - 20. sorularda boş bırakılan yere uygun gelen kelime veya ifadeyi işaretleyiniz.

1. I haven't seen her - - - - a long time.

- A) before B) yet
C) since D) for

2. Where - - - - you - - - - your car yesterday?

- A) will / park B) do / park
C) did / park D) have / parked

3. She hasn't swum in the sea - - - - she moved this city.

- A) never B) since
C) for D) ever

4. I was studying English when - - - - .

- A) my father comes home at 18:00
B) my mother has cooked dinner
C) Selin will enter the room
D) Arda called me

5. My grandmother - - - - me stories when I was a kid.

- A) tell B) tells
C) used to tell D) is telling

6. Let's eat out, - - - - ?

- A) is he B) will you
C) does she D) shall we

7. This English exam is - - - - than the last one.

- A) hard B) harder
C) so hard D) the hardest

8. A house in Bursa is - - - - than a house in Çankırı.

- A) expensive
B) so expensive
C) more expensive
D) the most expensive

9. There are - - - - people in İstanbul than in İzmir.

- A) more B) much
C) many D) a lot of

10. My exam results are - - - - than yours.

- A) bad B) so bad
C) the worst D) worse

11. Carrots are - - - - for you than cookies.

- A) bad B) less
C) good D) better

12. Mert can't swim, - - - - ?

- A) can he B) does he
C) will he D) is he

13. Do your homework, - - - - ?

- A) is he B) were they
C) will you D) has she

14. Tomorrow - - - - a hard day for you.

- A) was B) will be
C) be D) been

15. Houses - - - - big and comfortable in the past.

- A) were B) will be
C) has been D) was

16. I - - - - a grilled fish yesterday.

- A) eating B) to eat
C) eaten D) ate

17. I have lost my key. I can't - - - - it.

- A) call B) find
C) drink D) think

18. My sister - - - - her room up in ten minutes.

- A) tidied B) watched
C) taught D) slept

19. Our life style has - - - - since the development of technology.

- A) change B) changing
C) changed D) to change

20. While I was washing the dishes, - - - - .

- A) I worked here
B) I wrote a letter
C) I dropped a glass
D) I walked on the street

1. OTURUM

(244) ALMANCA – 5

1-18. sorularda boş bırakılan yere uygun gelen ek, kelime veya ifadeyi işaretleyiniz.

1. Januar, Februar, März sind - - - - .

- A) Monate B) Jahr
C) Wochen D) Tage

2. laut, laut- - - - , am laut- - - - .

- A) -er / -esten B) -esten / -er
C) -er / -er D) -er / -este

3. Hans : Ich habe heute
Bauchschmerzen.

Gülay : - - - - du doch gestern
kein Eis gegessen.

- A) Solltest B) Möchtest
C) Hättest D) Würdest

4. Ein Jahr hat vier - - - - .

- A) Monate B) Jahreszeiten
C) Tage D) Wochen

5. Ein Flugzeug kann - - - - .

- A) schwimmen B) reiten
C) laufen D) fliegen

6. Aynur : Susi, wie lange ist
eure Mittagspause?

Susi : - - - - 12.00 - - - - 13.30
Uhr.

- A) Von / bis B) Bei / im
C) Um / zu D) Am / um

7. A: - - - - fährt ihr in die Ferien?
B: Mit dem Zug.

- A) Wie lange B) Womit
C) Warum D) Wohin


8. Das neue Schuljahr beginnt
- - - - 28. September.

- A) im B) um C) am D) zu

9. Mein Vater fährt - - - - mit dem
Bus. Er fährt meistens mit
seinem Auto.

- A) fast B) immer
C) nur D) selten

10.



A: Wo ist das Restaurant?

B: Es ist - - - - der Schule und
der Post.

- A) zwischen B) neben
C) vor D) auf

11. A: Ist Ali heute in der Schule?
B: Nein, er ist - - - - in der
Schule.

- A) doch B) kein
C) nicht D) aber

12. A: Bist du 16 Jahre alt?
B: Ja, ich - - - - 16 Jahre alt.

- A) ist B) sind
C) sein D) bin

13. Kaufst du ein Haus - - - - eine
Wohnung?

- A) aber B) oder
C) weil D) denn

14. Ich möchte Lehrer - - - - .

- A) werde B) wirst
C) werden D) wird

15. Wir sind letztes Jahr nach
Kuşadası - - - - .

- A) fahren B) gefahren
C) fuhr D) fährt

16. die Woche, - - - - , das Jahr

- A) die Stunde
B) die Minute
C) der Sommer
D) der Monat

17. Das Spiel endet - - - - 22 Uhr.

- A) am B) im C) bei D) um

18. - - - - ich 10 Jahre alt war, ging
ich in die Grundschule.

- A) Bei B) Als C) Um D) So

19. Welches ist ein Monat im
Winter?

- A) Februar B) April
C) Juni D) September

20. Aşağıdakilerden hangisinin
Türkçe karşılığı yanlış verilmiş-
tir?

- A) Guten Morgen - Günaydın
B) Mittag - Öğlen
C) Donnerstag - Çarşamba
D) Abend - Akşam

(244) FRANZIZCA – 5

1 - 15. sorularda boş bırakılan yere uygun gelen kelime veya ifadeyi işaretleyiniz.

1. - - - - regarde la télé du matin
au soir.

- A) Nous B) Ils
C) Elle D) Vous

2. Hier soir, - - - - sont rentrées à
cinq heures du matin.

- A) nous B) elles
C) ils D) lui

3. Nicole? C'est la fille - - - - joue
dans la neige.

- A) qui B) que
C) dont D) donc

1. OTURUM

4. Paris est la ville - - - - se trouve la tour Eiffel.

- A) que B) qui
C) donc D) où

5. Voici la voiture blanche - - - - Çetin a acheté.

- A) qui B) ce qui
C) ce que D) que

6. - - - - il fait chaud, Pierre va à la piscine.

- A) Pourquoi B) Quand
C) Comment D) Combien

7. Nous nous sommes promenés dans les rues de Foça - - - - printemps.

- A) au B) en
C) il y a D) dans

8. Paulette a fait du - - - - dans les Alpes dimanche dernier.

- A) boxe B) natation
C) marche D) ski

9. - - - -, j'irai au lac d'Abant pour faire du camping.

- A) Lundi dernier
B) Samedi prochain
C) Hier
D) Pendant

10. L'enfant - - - - le père habite à Paris, est joueur de football.

- A) qui B) où
C) dont D) que

11. Les enfants apprennent beaucoup de choses - - - - la télé.

- A) regardez B) en regardant
C) regardé D) regarder

12. Arda - - - - au football à l'équipe de Barcelone est sympa.

- A) jouant B) en jouant
C) jouer D) jouent

13. Nous faisons de l'aérobic en - - - - de la musique.

- A) écoute B) écouter
C) écoutant D) écoutons

14. Ils ne vont pas - - - - l'école - - - - pied.

- A) aux / en B) en / en
C) à / en D) à / à

15. Pour me baigner, je vais - - - - .

- A) à la mer B) à la mairie
C) à la librairie D) au café

16. "M. et Mme Dubois ont pris l'avion pour Nice." cümlesinde altı çizili sözcüklerin yerine aşağıdaki şahıs zamirlerinden hangisi konulabilir?

- A) Vous B) Nous
C) Ils D) Elles

17 - 18. sorularda verilen cümlelerin Türkçe karşılığını işaretleyiniz.

17. Filiz fait ses devoirs en mangeant des bonbons.

- A) Filiz süt içerken ödevlerini yapıyor.
B) Filiz şeker yiyerek ödevlerini yapıyor.
C) Filiz bugün iki bardak süt içti.
D) Filiz ders çalışırken şeker yemeyi seviyor.

18. Ma mère repasse en regardant la télé.

- A) Annem ütü yaparken televizyon seyretti.
B) Annem her gün ütü yapar.
C) Annem televizyon seyrederek ütü yapar.
D) Annem ütü yapmayı hiç sevmez.

19 - 20. sorularda verilen cümlelerin Fransızca karşılığını işaretleyiniz.

19. Kantinde yemek yiyen arkadaşlarımla konuştum.

- A) J'ai parlé avec mes amis mangeant à la cantine.
B) J'ai parlé avec mon amie mangeant de la salade à la cantine.
C) J'ai rencontré mes amis mangeant dans un restaurant.
D) Je parle avec mes amis mangeant du gâteau dans un café.

20. Marc oğlunu beklerken yoldan geçenlere bakıyordu.

- A) Marc a regardé les vitrines en attendant son fils.
B) Marc a regardé les passants en attendant le bus.
C) Marc regarde toujours les passants en attendant son ami.
D) Marc regardait les passants en attendant son fils.

(403) DİL VE ANLATIM – 3

1. • Dil edebiyatın temelidir, edebiyat ise bir milletin ruhudur.
• İşini bitir de seninle sinemaya gidelim.
• Sen, hayvanları nasıl başıboş bırakırsın otlakta?

Bu cümlelerde dil aşağıdaki işlevlerinden hangisiyle kullanılmamıştır?

- A) Alıcıyı harekete geçirme işlevi
B) Göndergesel işlev
C) Heyecana bağlı işlev
D) Dil ötesi işlev

1. OTURUM

2. Bir sanatçı çıkıp "Ben, yaşadığım çağın tarihini yazmak, günümü saptamak istiyorum." diyebilir. Bir başka sanatçıya göre basıncını duyduğu sorunlardan kurtulmak, bir boşalımdır yazmak. Bakarsınız bir kişi de çıkar, "Benim sanatsal eylemim kendimi tanımak adına- dır." der. "Ben yazdıkça, çizdikçe, ses bileşimleri kurdukça düşün- biliyorum, duyabiliyorum." diyen- ler de olabilir.

Bu parça aşağıdaki sorulardan hangisine yanıt vermek ama- cıyla yazılmıştır?

- A) Sanatçının temel görevi nedir?
B) Sanatseverlerin sanata ilgi duymalarının nedenleri farklı mıdır?
C) Her sanat dalında farklı ama- çlarla mı eser verilir?
D) Kişiyi sanat eylemine iten en önemli etken nedir?

3. İlk Çağ ile Orta Çağ, toplumun belli başlı kesimlerini sanatla kaynaştırmıştı. Bu, sonraki yüz- yıllarda da devam etti. Sanatsal eylem, sanatsal algılama bir yaşam biçimi gibiydi. Eski çağın tiyatrosu, dinsel törenlerde söy- lenen şarkılardan ortaya çıkmıştır. Çanak, çömlek, işleme, dokuma gibi el sanatları da insanların kişi- liklerini gerçekleştirdikleri eylem- lerdir. Neredeyse sanatla yaşam özdeşleşmişti. Zamanımıza doğru geline süreçte önce yavaşça, sonra hızlanarak toplumla sana- tın bağlarının gevşediği ve yerini başka toplumsal kurumlara bırak- tığı görüldü. Bunlar da bilim ve siyasetti.

Bu parçada aşağıdakilerden hangisine değinilmemiştir?

- A) Bilimin, sanatçının yaratıcılığı- na olan etkisine
B) Tiyatronun kaynağına
C) Sanatın işlevine
D) Sanatın toplumla olan ilişkisi- nin değiştiğine

4. Aşağıdakilerden hangisi iletişi- min öğelerinden biri değildir?

- A) Kanal B) Alıcı
C) Bağlaşıklık D) Kaynak

5. Güneş ışığı insanlar için sadece bir enerji kaynağı değil. Mesela mimarlar için projelerinde yeni boşluklar ve alanlar kazandıran bir tasarım aracı. Gün ışığının en verimli kullanıldığı bina tasarımlarının birçok avantajı var. Güneş ışığından etkin bir şekilde yararlanmanın, enerji maliyetlerinin düşmesini sağlayan ekonomik kazanımlarının yanı sıra insan sağlığı üzerinde olumlu etkileri olduğu da biliniyor.

Bu parçanın dil ve anlatım özel- likleriyle ilgili aşağıdakilerden hangisi söylenemez?

- A) Dil göndergesel işlevde kulla- nılmıştır.
B) Anlatım somuttur.
C) Örneklemeden yararlanılmıştır.
D) Tartışmacı bir anlatımı vardır.

6. Etkili ve güzel bir anlatım yapabil- mek için anlatımda bazı noktalara dikkat etmek gerekir. Öncelikle yapmacıktan kaçınılmalıdır. Okur anlatılanları yadsımamalı, kendi hayatının bir parçası olarak görebilmelidir. Bu yapılırken de tabii ki anlatımda çelişkilere yer verilmemelidir. Anlatımın etkisini azaltan en önemli durumlardan biri de anlatımın kesik kesik ol- masıdır. Bu durum, okuyucunun metinle ilgisini koparır ve onu me- tinten uzaklaştırır.

Bu parçada iyi bir anlatımın özellikleriyle ilgili aşağıdakiler- den hangisine değinilmemiştir?

- A) Duruluk B) Akıcılık
C) Doğallık D) Tutarlılık

7. - - - -, karşıımızdaki düşünce, duygu ve kanılarını değiştirmeyi amaçlayan bir tartışma çeşididir. Duyguya, coşkuya değil; kanıtlara yaslanılarak yapılır. Çoğunlukla öğrenciler arasında ve sınıf orta- mında düzenlenir.

Bu parçada boş bırakılan yere aşağıdakilerden hangisi getiril- melidir?

- A) Münazara B) Forum
C) Panel D) Sunum

8. Aşağıdakilerden hangisi pane- lin özelliklerinden değildir?

- A) Konuşmacı sayısı 3 ile 6 ara- sında değişebilir.
B) Toplumı ilgilendiren bir konu, uzmanları tarafından tartışılır.
C) Bir konuda karara varmak amaçlanır.
D) Konuşmalar başkanın verdiği sıra ve süreye göre yapılır.

9. Az yanımda kal, çocukluğum, Temiz yürekli, uysal çocukluğum... Ah, ümit dolu gençliğim.

Bu dizelerde hâkim olan tema aşağıdakilerden hangisidir?

- A) Yalnızlık B) Özlem
C) Karamsarlık D) Ölüm

10. "Nasıl olur da terbiye işinden bütün millet sorumlu kılınabilir?" itirazında bulunanlar var. Buna cevap vermek için bir misal vereyim: Sabahları tramvaya, vapura, otobüse ve dolmuşa binerken hepimizin gördüğü izdiham manzaraları içinde okul çocukla- rıyla büyük adamlar arasındaki münasebete bir bakalım. Küçük bir çocuk, kendisini itip kakan hatta mini mini ayaklarına basıp geçerek taşıta atlayan ağabeyle- rini, ablalarını, amcalarını, hatta dedelerini görürse kendisinden büyüklere muhabbet ve hürmet besleyebilir mi?

Bu parçada ağır basan anlatım biçimi aşağıdakilerden hangi- sidir?

- A) Açıklama B) Tartışma
C) Öyküleme D) Betimleme

1. OTURUM

11. Muzaffer Öğretmen, sosyal bilgiler dersinde öğrencisiyle aşağıdaki şekilde bir iletişim gerçekleştirmiştir:

Muzaffer Öğretmen: Osmanlı Devleti'nin kuruluş tarihini kim söyleyecek?

Aslı: 1299'da kurulmuştur öğretmenim.

Muzaffer Öğretmen: Aferin!

Bu iletişim örneğiyle ilgili aşağıdaki eşleştirmelerden hangisi yanlıştır?

- A) Alıcı – Aslı
B) Dönüt – Osmanlı Devleti'nin kuruluş tarihini kim söyleyecek?
C) Gönderici – Muzaffer Öğretmen
D) Bağlam – Sınıf

12. I. Sunumu yapan konuşmacı, dinleyicilerin soru sormalarına müsaade etmelidir.
II. Sunumun hazırlığında bol ve değişik kaynaktan yararlanılmalıdır.
III. Konuşmacı, kelimeleri doğru telaffuz etmeye özen göstermelidir.
IV. Sunum yerinin önceden görülmesi gerekir.

Yukarıda numaralanmış cümlelerden hangileri sunumdan önce yapılması gerekenleri ifade etmektedir?

- A) I ve II. B) I ve III.
C) II ve III. D) II ve IV.

13. **Aşağıdakilerden hangisi tartışmanın sağlıklı şekilde yürütülmesi için yapılması gerekenlerden değildir?**

- A) Tartışmayı yönetecek, konuşmacılara söz hakkı verecek bir başkan seçilmelidir.
B) Konuşmacılar, konuşmalarında sözlü ifade kurallarına dikkat etmeli; açık ve anlaşılır bir dille, kısa cümlelerle fikirlerini ifade etmelidir.
C) Tartışılacak konu tartışmadan önce değil, tartışmanın başında başkan tarafından konuşmacılara bildirilmelidir.
D) Konuşmacı, diğer katılımcılar tarafından sabırla dinlenmeli; söylenenler hoşgörülle karşılanmalıdır.

14. I. Açık oturumla panel birbirine çok benzese de arada üslup farkı vardır.
II. Panelin sonunda dinleyicilerden soru alınmaz.
III. Panelde konuşmacı sayısı 3 ile 6 arasında değişebilir.

Panelle ilgili numaralanmış cümleler doğru(D)-yanlış(Y) olarak değerlendirildiğinde sıralama aşağıdakilerden hangisi olur?

	I	II	III
A)	D	Y	D
B)	Y	Y	D
C)	D	D	Y
D)	Y	D	Y

15. **Aşağıdakilerden hangisi not alırken dikkat edilmesi gerekenlerden biri değildir?**

- A) Parçadaki anahtar sözcükler çok iyi seçilmelidir.
B) Paragraflardaki düşünceler kendi sözcüklerimizle yeniden yazılmalıdır.
C) Anlamı bilinmeyen sözcükler için sözlüğe başvurulmalıdır.
D) Paragraflardaki düşünceler derinliğine, sınırlandırılmadan yazılmalıdır.

16. **Aşağıdaki konulardan hangisi diğerlerine göre daha çok sınırlandırılmıştır?**

- A) Anonim halk edebiyatında çocuk
B) Türk edebiyatında çocuk
C) Halk edebiyatında çocuk
D) Edebiyatta çocuk

17. (I) Erzurum fidanlığı ülkemizde huş üretimi yapan yerlerden biri. (II) Buradaki fidanlara dünyaca ünlü ve etkileyici huşlu yoldan geçilerek ulaşıyor. (III) Yaygın olarak ilk defa burada yetiştirilen huşlar Türkiye'nin diğer yörelerine gönderiliyor. (IV) Fidanlıkta ağaçlandırma çalışmalarında kullanılmak üzere 400 binin üzerinde huş fidanı bulunduruluyor.

Bu parçada numaralanmış cümlelerin hangisinde öznel bir yargı vardır?

- A) I. B) II. C) III. D) IV.

18. Halk arasında "Birgi Dede" adıyla anılan İmam-ı Birgivi, Osmanlı Türklerinin 16. yüzyıldaki en önemli âlimlerindedir. 27 Mart 1523'te Balıkesir'de doğan Birgi Dede'nin asıl adı Mehmed'dir. Eğitimine babası Pîr Ali Efendi'den Kuran ve mantık dersleri alarak başladı. Yükseköğrenimini İstanbul'da Mahmud Paşa Medresesinde tamamladı. Burada Şemseddin Ahmet Efendi'den dersler aldı.

Bu parçanın anlatım biçimi aşağıdakilerden hangisidir?

- A) Öyküleme B) Tartışma
C) Betimleme D) Açıklama

19. **Aşağıdakilerden hangisi alışılmış bağdaştırmaya örnektir?**

- A) Çatlayan dudak
B) Solan gençlik
C) Pembe hayaller
D) Ağlayan zaman

20. **Aşağıdaki metinlerin hangisinde üçüncü kişi anlatımı kullanılmıştır?**

- A) Evet, eziliyordum karşında, utanç duyuyordum ama öfkele niyordum da... Ne kadar kibirli bir insan olmuştun sen böyle, ne kadar bencil, ne kadar vurdumduymaz...
B) Artık emindim, katiyetle tanıyordum Mehmed Esad'ı. Belki buraya geliş maksadını da biliyordu. Ama benimle paylaşmak istemediğini anlamıştım.
C) Araba inişli yokuşlu dağ yoluna girmişti. Kâh kurumuş sel çukurlarından geçiyor kâh boş tarlaların, bozulmuş bağların kenarlarını takip ediyordu. Şoför Ayhan emekliliğine gün sayarken neler yapılabileceğini düşünüyordu.
D) Senelerden beri leylek görmüyordum. Hatta bu kanatlı yaz seyyahlarının son senelerde İstanbul'a az uğradığı herkesin dikkatini çekmişti. Bunun nedenini dün öğrendim.

1. OTURUM

(404) DİL VE ANLATIM – 4

1. Aşağıdakilerden hangisi açıklayıcı betimlemeye örnektir?

- A) Mavi örtüyle kaplı görkemli tepenin eteğinde kıvrıla kıvrıla akan bir nehir vardı. Sabahın ilk ışıklarıyla ayrı bir güzellik kazanıyordu bu görüntü.
- B) Pınar öfkeyle öyle kaynıyor ki sarı çakıl taşları çalkalandıkça çalkalanıyor. Bazıları aceleyle aşağıya doğru gidiyor, bazıları ise zarif helezonlar çizerek yukarıya çıkıp havaya kavuşuyor.
- C) Yanı başımdaki şapkanın tüyleri bir bebek çingırağı kadar parlak ve hoştu. Tepemdeki görkemli çınar ağacının yaprakları yeşil yeşil gölgelenip beni rüyalara sürüklüyordu.
- D) Binanın dış cephesinde, duvarların çatı ile birleştiği yerde kuleleri dört yandan saran bordür bulunmaktadır. Bazı yerlerinde kullanılan çarkıfelek ve rozet denilen taş süslemeler de göze çarpmaktadır.

2. Aşağıdaki cümlelerde altı çizili sıfatlardan hangisi yapıcı diğerlerinden farklıdır?

- A) Işıksız bir odada saatlerce kendini dinlemişti.
- B) Temiz bir ortam eğitim için gereklidir.
- C) Yorgun bir hâlde çalışma masasına geçmiştim.
- D) Soğuk havalarda bir bardak çay gibisi yoktur.

3. Aşağıdaki cümlelerin hangisinde soru anlamı bir zamirle sağlanmıştır?

- A) Bu konuda bize kim yardımcı olabilir?
- B) Kâmil'in yaptığı sunumu nasıl buldun?
- C) Bu eşyaları hangi dolaba yerleştireceğiz?
- D) İzmir'de ne kadar kalmayı düşünüyorsunuz?

4. Destansı anlatımın aşağıdaki türlerden hangisinde kullanımı daha azdır?

- A) Şiir
C) Hikâye
- B) Roman
D) Makale

5. (I) Akdeniz'in kabarık suları iskele seviyesine ulaşmıştı. (II) Ara sıra uçan bir balık havada ateş huzmesi bırakıyordu. (III) Saat üç gibi arkadaşım sahile geldi. (IV) Oysa öğleden önce yanımda olacaktı.

Bu parçada numaralı cümlelerin hangisinde birleşik zamanlı (çekimli) fiil kullanılmamıştır?

- A) I. B) II. C) III. D) IV.

6. Şehrin kıyısında, ufacak bir derenin kenarında, dalları suya sarkan ihtiyar bir söğüt ağacı vardı. İlkbaharın başlangıcında bu söğüdün dallarına bir dişi kırlangıç gelip kondu. Derenin bir başından bir başına yıldırım gibi uçan beyaz tüylerini suya dokundurarak şeffaf kanatlı, küçük böcekleri yakalayan diğer kırlangıçlara bakmaya başladı. Başını hafif hafif sallıyordu.

Bu parçada aşağıdaki anlatım türlerinden hangisi kullanılmıştır?

- A) Betimleyici anlatım
B) Kanıtlayıcı anlatım
C) Düşsel anlatım
D) Tartışmacı anlatım

7. Aşağıdakilerden hangisi emredici anlatımın özelliklerinden biri değildir?

- A) Emir, telkin, öneri anlamı taşıyan ifadeler yer verilir.
- B) Cümlelerde fiiller hâkimdir.
- C) Dil, alıcıyı harekete geçirme işlevinde kullanılır.
- D) Daha çok ansiklopedilerde ve ders kitaplarında kullanılır.

8. Aşağıdaki cümlelerden hangisinin yüklemi çatı bakımından diğerlerinden farklıdır?

- A) Bahçedeki büyük saksıyı anem kırmış.
- B) Okulun bahçesindeki çöpler toplandı.
- C) Şüpheli şahıs en son otogarda görülmüş.
- D) Bu çanta otobüs durağında bulunmuş.

9. Bir şiirde kullanılan sözcüklerin, günlük yaşamda kullanılan, yaygın sözcükler oluşu bir zayıflık mıdır? Ben buna katılmıyorum. Yunus Emre, Pir Sultan Abdal, Karacaoğlan, Âşık Veysel bugüne kadar gündemde kalabilmişse halkın dilini kullandıkları içindir. Şair uzaydan gelmediğine göre konuştuğu dili kullanmak durumundadır.

Bu parçada aşağıdaki anlatım türlerinden hangisi kullanılmıştır?

- A) Tartışmacı anlatım
B) Destansı anlatım
C) Öyküleyici anlatım
D) Gelecekte söz eden anlatım

10. Aşağıdakilerden hangisi öğretici anlatımın özelliklerinden biri değildir?

- A) Dil daha çok göndergesel işlevde kullanılır.
- B) Dil ve ifade sade, gösterişsiz ve pürüzsüzdür.
- C) Daha çok öznel cümleler kullanılır.
- D) Söz sanatlarına, kelimelerin mecaz anlamlarına pek yer verilmez.

11. Öyküleyici anlatım aşağıdaki türlerin hangisinde en az kullanılır?

- A) Anı
C) Söylev
- B) Hikâye
D) Roman

12. Aşağıdaki cümlelerin hangisinde isim türünde bir sözcük yoktur?

- A) Madem buraya kadar geldik, şurada biraz soluklanalım.
- B) Boğaz'dan vızır vızır geçen gemiler çevre kirliliğine davetiye çıkarıyor.
- C) Bütün yazılarını okuduğum o yazarı oldukça başarılı buluyorum.
- D) Bazı fırsatlar insanın kapısını ömründe bir kere çalar.

1. OTURUM

13. Yere düşürülen bir bıçak sesi
Kristali tuzla buz olmuş gözlerinin
Biliyorum ay kanatıyor
Ne zaman sussak geceyi

Bu dizelerde aşağıdakilerden hangisi yoktur?

- A) Cins isim
B) Tekil isim
C) Topluluk ismi
D) Somut isim

14. Soluk bir ay dolanıyor
Kentin üstünde her gece

Bu dizelerdeki altı çizili sıfatın türü aşağıdakilerden hangisidir?

- A) İşaret B) Belgisiz
C) Sayı D) Soru

15. I. Sözcükler daha çok mecaz ve yan anlamdadır.
II. Dil göndergesel işlevde kullanılır.
III. Duygular içten geldiği gibi anlatılır.
IV. Daha çok düşünceler ön plandadır.

Yukarıda numaralanmış cümlelerden hangileri coşku ve heyecana bağlı anlatımın özelliklerindedir?

- A) I ve II. B) I ve III.
C) II ve III. D) II ve IV.

16. Aşağıdaki cümlelerden hangisinin yüklemi geçişsiz bir fiildir?

- A) En güzel Türk kahvesini o mekânda içtim.
B) Kaybolan çantayı iki saat boyunca aradık.
C) Dükkânın camlarını kimliği belirsiz kişiler kırmış.
D) Sait Faik bu şirin adada doğup büyümüş.

17. Aşağıdaki cümlelerin hangisinde zarf (belirteç) yoktur?

- A) Aradığınız kişi az önce buraya geldi.
B) Hava almak için dışarı çıkacağım.
C) Bugünün gençleri geçmişten ders almalıdır.
D) Çocuklar yolun karşısında gülererek yürüyorlardı.

18. Aşağıdakilerin hangisinde düşsel anlatımla ilgili yanlış bir bilgi vardır?

- A) Konu; olağanüstü ve fantastik özellikler gösterir ve hayal ürünüdür.
B) Kişiler çoğu zaman gerçek veya gerçeğe yakın kişilerdir.
C) Daha çok geçmiş zaman kipleri kullanılır.
D) Hayal, varsayım, abartma, kişileştirme gibi unsurlar çokça kullanılır.

19. (I) Çiçek sevgisi birçok insanın, birçok ulusun kanına işlemiştir. (II) Japonlar çiçeğe gösterdikleri saygı oranında ruhlarının yüceleceğine inanırlar. (III) Onlara göre doğanın özüne yakın olmak, insana da yakın olmaktır. (IV) Onlar yollarda rastladıkları çiçeklere de hiç dokunmazlar.

Bu parçada numaralanmış cümlelerin hangisinde hem edat hem bağlaç kullanılmıştır?

- A) I. B) II. C) III. D) IV.

20. Söylenen sözün tersini kastederek kişiyle veya olayla alay etmeye - - - -, güldürmekten çok düşündürmeyi ve yergiyi amaçlayan mizaha - - - - denir.

Bu cümlede boş bırakılan yerlere aşağıdakilerden hangileri sırasıyla getirilmelidir?

- A) humor – karikatür
B) kara mizah – parodi
C) ironi – humor
D) ironi – kara mizah

(405) DİL VE ANLATIM – 5

1. I. Dil açık, anlaşılır biçimde düzenlenir.
II. Anlatış biçimi, estetik önemlidir.
III. Kişi her okuduğunda ayrı yorumlar.
IV. Düşünceden çok duyguya hitap eder.

Numaralanmış cümlelerden hangisi öğretici metinlerin özelliklerindedir?

- A) I. B) II. C) III. D) IV.

2. Edebiyatımızda ilk eleştiri örneği - - - - tarafından yazılan Tahrib-i Harabat'tır.

Bu cümlede boş bırakılan yere aşağıdakilerden hangisi getirilmelidir?

- A) Ziya Paşa
B) İbrahim Şinasi
C) Ahmet Mithat Efendi
D) Namık Kemal

3. Aşağıdakilerin hangisinde anıyla ilgili yanlış bir bilgi verilmiştir?

- A) Yaşanmış olayları konu aldığı için tarihe ışık tutar.
B) Mümkün olduğunca öznel yazılmalıdır.
C) Anı yazarı anlattıklarını belgelemek zorunda değildir.
D) Açık, sade, yalın, duru ve içten bir anlatımla kaleme alınır.

4. Tanzimat'tan sonra gelenler arasında "Öz şiiir" yolunun en güçlü şairi olan Yahya Kemal Beyatlı 2 Aralık 1884'te doğmuştur. Rakofça kırlarına çok eskiden yerleşmiş akıncı beylerinin soyundan gelen Yahya Kemal'in asıl adı Mehmet Agâh'tır. Babası Nişli İbrahim Bey; annesi, divan şiiirinin son üstatlarından Leskofçalı Galip Bey'in yeğeni Nakiye Hanım'dır.

Bu parça aşağıdaki yazı türlerinden hangisine örnektir?

- A) Biyografi B) Otobiyografi
C) Anı D) Mektup

5. Sohbet türüyle ilgili aşağıdakilerden hangisi yanlıştır?

- A) Günlük konuşma diline yakın bir dil kullanılır.
B) Bu türdeki yazılara daha çok gazete ve dergilerde rastlanır.
C) Savunulan düşüncenin kanıtlanma zorunluluğu vardır.
D) Anlatım samimi, içten ve anlaşılır olmalıdır.

6. Aşağıdakilerden hangisi gazete çevresinde gelişen metinlerdendir?

- A) Deneme B) Mesnevi
C) Trajedi D) Otobiyografi

1. OTURUM

7. Devlet dairelerinin kendi aralarında veya kişilerle devlet daireleri arasında yazılan mektuplara - - - - denir.

Bu cümlede boş bırakılan yere aşağıdakilerden hangisi getirilmelidir?

- A) özel mektup
B) edebî mektup
C) resmî mektup
D) iş mektubu

8. Aşağıdakilerden hangisi mektup yazarken dikkat edilecek hususlardan biri değildir?

- A) Süslü ve sanatlı bir anlatıma başvurulur.
B) Uygun bir hitapla başlanır.
C) Kâğıdın sağ üst köşesine yer ve tarih yazılır.
D) Son bölümde selam ve saygı sözlerine yer verilir.

9. Londra, 3 Ekim 1977

Yakında İstanbul'a dönüyorum. Bugün Dr. Morgan'a gideceğim. İçim karışık düşüncelerle bulanık. Yalnız, vaktim ve gücüm olursa "Eylembilim" ve "Geleceği Elinden Alınan Adam" adlı hikâyelerimi bitirmek istiyorum. İkisinin de ana hatlarını bu deftere yazmıştım ama yazacak kuvveti ve düşünme çabasını kendimde bulamıyorum.

Bu metinle ilgili olarak aşağıdakilerden hangisi doğrudur?

- A) Gazete çevresinde gelişen metin – sohbet
B) Gazete çevresinde gelişen metin – deneme
C) Kişisel hayatı konu alan metin – biyografi
D) Kişisel hayatı konu alan metin – günlük

10. Bir kimsenin hayatını, kişiliğini, eserlerini geniş olarak inceleyen, bunları roman tarzında işleyen edebî yazılara - - - - denir.

Bu cümlede boş bırakılan yere aşağıdakilerden hangisi getirilmelidir?

- A) tezkire B) monografi
C) otobiyografi D) anı

11. Kasırganın kıyıları dövdüğü, dağları devirdiği saatte Antalya'ya yukarıdan bakan vadilerin birinde, Alakır'da, önemli bir buluşmanın konukları bekliyordu. Sarıkeçililerin uzak yaylalardan getirdiği kara çadır henüz dertoptu. Kasırganın dinmesi gerekiyordu. Alakır'ın tepesine ulaştığımda gerdirmeleriyle âdeta bir Anadolu haritasına benzeyen kıl çadır kurulmuş, bütün görkemiyle vadiye bakıyordu.

Bu parça için aşağıdakilerden hangisi söylenemez?

- A) Olay çevresinde oluşan metne örnektir.
B) Olay, kişi, mekân öğelerine yer verilmiştir.
C) Öğüt verme amacıyla yazılmıştır.
D) Mecaz anlamlı kelimeler kullanılmıştır.

12. Aşağıdaki parçalardan hangisi öğretici metne örnektir?

- A) Karanlık çökmüş olmasına rağmen ortalık hâlâ sıcaktan kavruluyordu. Ne bir rüzgâr ne bir esinti. Belki Taksim Bahçesi esintili olur diyordum ama ağaçlarda tek bir yaprak bile kıvıldamıyordu. Yine de denize bakan terasta bir masaya oturdum.
B) Değişik yörelerdeki bahçelerden yılın değişik zamanlarında toplanan çaylar birbirinden az çok farklıdır. Paketlenmiş çayların aynı lezzette olmasını sağlamak için bu değişik nitelikteki çayların karıştırılması gerekir.
C) Bizim heyet içeri girdikten sonra kapandı kapı. Ne var ki sofadan geçerek sadaret makamına giderken iki nöbetçi dikildi önümüzde. Neler olup bittiğini anlamamışlardı.
D) Muhtar Bey duymadı bile bu sözleri, kışlaya yürüdü. Dördümüzün de bakışları onun üzerindeydi; nefesimizi tutmuş, bu cesur zabiti izliyorduk. Önce adımları tereddütlüydü, sonra kendine güveni geldi.

13. Edebî mektupla ilgili aşağıdakilerden hangisi yanlıştır?

- A) Bu mektup türü aynı zamanda resmî mektup olarak da adlandırılır.
B) Dil ve anlatım açısından sanat değeri taşır.
C) Edebiyatçıların birbirlerine yazdıkları ve edebî düşüncelerini aktardıkları mektuplardır.
D) Bu mektuplar belge niteliği taşıması bakımından önemlidir.

14. Bu türdeki yazılarımda kendimi serbestçe ifade etmenin getirdiği bir rahatlık hissediyorum. Kendi kendimle konuşur gibi yazdığım için cümlelerim samimi ve akıcı oluyor ister istemez. Hele ki istediğim her konuyu ele alabilmenin özgürlüğü... İşte onu hiçbir şeye değişmem.

Bu parçada yazarın "bu türdeki yazılarımda" dediği tür aşağıdakilerden hangisidir?

- A) Makale B) Deneme
C) Eleştiri D) Fıkra

15. Yazar Sait Faik Abasıyanık'ın doğal güzelliklerini hikâyelerinde anlattığı Burgazada, çöplükten çıkan yangınla büyük tehlike atlattı. Marmara'nın en yeşil ve üçüncü büyük adası olan Burgazada'da yangın, rüzgârın etkisiyle yerleşim birimlerine kadar ilerledi. Büyük panik yaşayan vatandaşlar, adanın sahil kesiminde toplandı.

Bir haber yazısından alınan bu parçada aşağıdaki sorulardan hangisinin yanıtı yoktur?

- A) Kim? B) Nerede?
C) Niçin? D) Ne zaman?

16. • Tek Adam
• Dertli Dolap
• Yunus Emre

Yukarıda verilen eserler hangi türde kaleme alınmıştır?

- A) Gezi yazısı B) Günlük
C) Biyografi D) Mektup

1. OTURUM

17. Sri Lanka'nın dağlık bölgesi, yüksekliği 2 bin metreyi aşan ve adanın merkezinde bulunan bu bölge, aynı zamanda en çok yağmur alan bölge. Nehirlerin kaynaklarının toplandığı yer. Kalu adıyla Hint Okyanusu'na dökülen nehir, geniş bir havzanın içinde bir örümcek ağı gibi irili ufaklı sayısız ırmak ve dereyle beslenerek akıyor. Âdem Zirvesi, diğer adıyla Adam's Peak bu bölgede bulunuyor. Buranın bir vadi ötesi ise Ratnapura, yani "cevher-şehir". Bu isim tabii ki de vadinin değerli taşlar bakımından önemli olmasından kaynaklanıyor.

Bu parça aşağıdaki metin türlerinin hangisinden alınmıştır?

- A) Gezi yazısı B) Anı
C) Otobiyografi D) Günlük

18. Aşağıdaki fıkra-makale karşılaştırmalarından hangisi yanlıştır?

- A) Fıkranın samimi ve serbest bir anlatımı vardır, makalelerde daha ciddi ve bilimsel bir dil kullanılır.
B) Fıkroda güncel konular ele alınır, makalede uzmanlık gerektiren konular işlenir.
C) Fıkroda işlenen konunun okura benimsetilmesi amaçlanır, makalede ispat kaygısı yoktur.
D) Fıkralarda konular kısa ve öz biçimde ele alınır, makalede düşünceler daha derinlemesine açıklanır.

19. 1911'de İstanbul'da doğmuşum. Ben doğduğumda ailem Ortaköy'de oturuyormuş. Ömrümün ilk dört yılı orada geçti. Çocukluğuma dair ilk hatıralarım da o yıllara rastlar. Maliye bakanı olan dedeme, zamanın padişahı tarafından "olgun" anlamına gelen "pişmiş" soyadı verildiğini büyüklerim anlatırlardı. Sonra ailemiz Üsküdar'a geldi. Çok sakin bir çocuktum. Ablam okula başlayınca ben de okula gitmeye heveslendim. Ailem ısrarlarına dayanamayıp beni erken yaşta okula gönderdi.

Bu parça aşağıdaki türlerin hangisinden alınmıştır?

- A) Sohbet B) Biyografi
C) Günlük D) Otobiyografi

20. I. Sansasyonel: Yalanlama.
II. Sürmanşet: Gazetelerin birinci sayfasındaki logonun üzerinde kullanılan başlık.
III. Asparagas: Şişirme haber.
IV. Muhabir: Basın ve yayın organlarına haber toplayan kişi.

Haber yazılarıyla ilgili yukarıda numaralanmış kavramlardan hangisi yanlış açıklanmıştır?

- A) I. B) II. C) III. D) IV.

(406) DİL VE ANLATIM – 6

1. Mülakatla ilgili aşağıdakilerden hangisi söylenemez?

- A) Sorular herkesin anlayabileceği şekilde açık ve net olmalıdır.
B) Dil, göndergesel işlevde ve alıcıcıyı harekete geçirme işlevinde kullanılır.
C) Mülakat yapılacak kişiden randevu alınmalıdır.
D) Sorulara verilen cevaplar değiştirilerek aktarılmalıdır.

2. Aşağıdakilerden hangisi söylev çeşitlerinden biri değildir?

- A) Askerî söylev
B) İktisadi söylev
C) Coğrafi söylev
D) Siyasi söylev

3. - Geleneksel sanatlarımızdan yararlanarak sinemada bir açılım sağlamak nasıl bir iştir?
- Gelenekten iki metot ile yararlanmak mümkün. Birincisi "kes yapıştır metodu". Geleneğin kimi unsurlarını alır, filmde kullanırsın. Örneğin İttri'yle ilgili bir film yapacaksan İttri'nin müziğini kullanırsın. İkinci yöntem, geleneğin bazı yapılarını yorumlayıp onlardan metaforlar üretmektir. İkinci yöntemde, mevzuya derinlemesine hâkim olmaya çalışarak bir tazeleme çabası ortaya koyarsunuz.

Bu metnin türü aşağıdakilerden hangisidir?

- A) Mülakat B) Söyleşi
C) Deneme D) Söylev

4. Aşağıdakilerden hangisi röportaj yazarının dikkat etmesi gereken kurallardan biri değildir?

- A) Kişisel düşüncelerine hiçbir zaman yer vermemesi
B) Gördükleri ve duyduklarını ustaca dile getirmesi
C) Röportajı okuyucunun dikkatini çekecek şekilde hazırlaması
D) Toplumla ilgilendiren konulara yer vermesi

5. Aşağıdakilerden hangisi röportaj türünde yazılmış bir eser değildir?

- A) Çukurova Yana Yana (Yaşar Kemal)
B) Edebiyatçılarımız Konuşuyor (Yaşar Nabi Nayır)
C) Şair Evlenmesi (Şinasi)
D) Telsiz Duvaksız Anadolu (Necmi Onur)

6. Mülakat ile - - - - birbirine karıştırılır. Oysa - - - - hazırlayan kişi gördükleri ve duyduklarıyla yetinmez.

Bu parçada boş bırakılan yerlere aşağıdakilerden hangisi getirilmelidir?

- A) röportaj B) söylev
C) tiyatro D) sohbet

7. Aşağıdakilerin hangisinde röportaj türü ile ilgili bir bilgi yanlıştır?

- A) Okuyucunun ilgisini çekecek ve onları düşündürecek biçimde düzenlenir.
B) Amacı, konuyu çarpıtmadan belgesel olarak okuyucuya sunmaktır.
C) Bir topluluğa belli bir fikri aşılama için yapılan etkili ve inandırıcı konuşmalardır.
D) Tek bir yazı olabileceği gibi aynı konuda yazı dizisi olarak da hazırlanabilir.

1. OTURUM

8. Efendiler! Tarih, milletlerin yükselme ve düşme sebeplerini ararken birçok siyasi, askerî, sosyal neden bulmakta ve saymaktadır. Şüphe yok, bütün bu nedenler sosyal olaylarda etkilidir. Fakat bir milletin doğrudan doğruya hayatıyla, yükselmesiyle, düşmesiyle ilgili ve ilişkili olan milletin ekonomisidir.

Bu metnin türü aşağıdakilerden hangisidir?

- A) Mülakat B) Söylev
C) Röportaj D) Fıkra

9. Röportaj, gazete çevresinde gelişen öğretici metinlerden - - - özelliklerini taşır. Çünkü röportajın da dayandığı sağlam bir düşünce ve tez vardır.

Bu parçada boş bırakılan yere aşağıdakilerden hangisi getirilmelidir?

- A) gezi yazısının
B) makalenin
C) biyografinin
D) fıkranın

10. I. Röportaj araştırma
II. Söylev hitap sözleri
III. Mülakat soru-cevap
IV. Hatip eleştirmen

Numaralanmış terimlerden hangisi karşısındakiyle ilişkilendirilemez?

- A) I. B) II. C) III. D) IV.

11. (I) Birkaç gün evvel bir eser daha yayımladı. (II) "Ali Nizami Bey'in Alafrangalılığı ve Şeyhliği" adını taşıyan bu uzun hikâye kitabında sanat ve edebiyat muhitinde layık olduğu alakayı bulacak. (III) Bu eser hakkında kendisiyle görüşmeyi düşündük. (IV) Abdülhak Şinasi Hisar, ziyaretimizi sempati ile karşıladı.

Bir röportajdan alınmış bu parçada numaralanmış cümlelerin hangisinde yazım yanlışı yapılmıştır?

- A) I. B) II. C) III. D) IV.

12. Bizim halk şairi adı altında tanıdığımız sanatçılar şehir kültürü ile beslenmiş kimselerdir. Fakat onlarda şehir tesirinin yanında köy ve kır hayatının tesirleri de kuvvetle devam edegelmiştir. Başka bir deyişle halk şairi bizim bugün ona folklor adını verdiğimiz, cemiyetin en alt tabakalarına kadar inen birtakım değer kaynaklarından faydalanan insanlardır.

Bir röportajdan alınan bu paragraf aşağıdaki sorulardan hangisine cevap olarak söylenmiştir?

- A) Halk şairinin dayandığı kültür hangisidir?
B) Halk şairinin günümüzde işlevi kalmış mıdır?
C) Halk edebiyatını oluşturan değerler nelerdir?
D) Halk şairinin toplumla ilişkisi nasıl olmalıdır?

13. Üniversite öğrencisi Onur, sosyal medya kullanımıyla ilgili bir tez hazırlamaktadır. Onur, konunun uzmanı bir akademisyenle görüşüp onun düşüncelerini de tezine eklemek amacındadır.

Buna göre Onur'un, amacını gerçekleştirmek için kullanacağı tür aşağıdakilerden hangisidir?

- A) Günlük B) Hatıra
C) Söylev D) Mülakat

14. **Aşağıdaki cümlelerin hangisinin sonuna nokta (.) getirilemez?**

- A) Bugün kar yağacakmış
B) Siparişlerimiz haftaya gelir mi
C) Önümüzde güzel günler var
D) Çocuk, tatlı tatlı gülüyordu

15. **Aşağıdakilerden hangisi önemli söylevcilerden biridir?**

- A) Hamdullah Suphi Tanrıöver
B) Reşat Nuri Güntekin
C) Falih Rıfkı Atay
D) Yakup Kadri Karaosmanoğlu

16. Söylev türünün en önemli temsilcileri olarak Eski Yunan edebiyatında - - - - , Latin edebiyatında ise - - - - kabul edilebilir.

Bu cümlede boş bırakılan yerlere aşağıdakilerden hangileri sırasıyla getirilmelidir?

- A) Sokrates – La Fontaine
B) Aristo – Moliere
C) Platon – Boccaccio
D) Demosthenes – Cicero

17. Anadolu kadınları!

Bu gaza diyarında, bin seneden beri, ateş ve cenk yerlerine oğullarını koşturan Anadolu kadınları; bin senedir daima uzak yerlerde ölen, yetiştirdikleri oğulların mezarları nerededir bilmeyen Anadolu kadınları! Kurtuluş günleri, kavuşma günleri geldi. Sevinin, bayram edin!

Bu parçanın üslup özelliklerine göre aşağıdaki metin türlerinden hangisiyle kaleme alındığı söylenebilir?

- A) Röportaj B) Mülakat
C) Söylev D) Makale

18. **Mustafa Kemal Atatürk'ün Kurtuluş Savaşı sırasında cep hede askere moral aşılama amacıyla yaptığı konuşmalar aşağıdakilerden hangisinin örneği kabul edilir?**

- A) Siyasi söylev
B) Askerî söylev
C) Hukuksal söylev
D) Dinsel söylev

19. **Aşağıdaki eserlerden hangisi röportaj türündedir?**

- A) Eğil Dağlar
B) Bu Diyar Baştan Başa
C) Sürgün
D) Semaver

20. **Aşağıdakilerden hangisi sözlü anlatım türlerinden biridir?**

- A) Anı B) Söyleşi
C) Günlük D) Röportaj

1. OTURUM

(407) DİL VE ANLATIM – 7

1. Aşağıdakilerden hangisi sanat-
sal metinlerin özelliklerinden
biri değildir?

- A) Gerçeklik ön plandadır.
- B) Hayallere ve mecaz anlatımla-
ra yer verilir.
- C) Dil şiirsel işlevde kullanılır.
- D) Kişi, zaman, mekân öğeleri
değiştirilebilir.

2.

	Hikâye	Kaynağı
I.	Kerem ile Aslı	Türk
II.	Yusuf ile Züleyha	Arap-İslam
III.	Emrah ile Selvihan	İran-Hint
IV.	Ferhat ile Şirin	Türk

Yukarıdaki eşleştirmelerin doğ-
ru olabilmesi için numaralan-
mış hikâyelerden hangi ikisinin
yer değiştirmesi gerekir?

- A) I ve II.
- B) I ve III.
- C) II ve IV.
- D) III ve IV.

3. Gene başım böyle fena hâlde tut-
muştu. Boğulacak gibi oluyordum.
Yalnızlığın yokladığı nöbetlerden
biriydi yine. Gece yarısı yaklaşı-
yordu. Biraz hava alayım, diye
sokağa çıktım. Geniş bir caddenin
düz ve parlak yaya kaldırımın-
da yürüyor, caddede sağlı sollu
dizilmiş dükkânların vitrinlerine
bakıyordum. Arnavut kaldırımı
döşenmiş yolun iki tarafındaki
evlerin hepsi de üç katlıydı. Belirli
aralıklarla dikilmiş sokak lambaları
geceye tatlı bir aydınlık veriyordu.

**Bu parçanın anlatımıyla ilgili
olarak aşağıdakilerden hangisi
söylenemez?**

- A) Olayın geçtiği mekân betimle-
nerek verilmiştir.
- B) Zaman unsuruna yer verilmiş-
tir.
- C) Gözlemci (3. Şahıs) anlatıcının
bakış açısıyla anlatılmıştır.
- D) Kahraman, ruh haliyle yansı-
tılmıştır.

4. Aşağıdaki cümlelerin hangisin-
de "mecazımürsel" vardır?

- A) Kırdaki çiçekler gibi
rengârenkti bu sokaktaki evler.
- B) Ünlü pedal doping yaptığını
sonunda itiraf etti.
- C) Korkusunu gizlemek için yüre-
ğiyle anlaşmaya varmıştı.
- D) Şefkat dolu elleriyle tüm insan-
lığı kucaklayabilirdi.

5. Aşağıdakilerden hangisi bağlı
olduğu edebî anlayışa göre ro-
man türlerinden değildir?

- A) Klasik roman
- B) Romantik roman
- C) Sosyal roman
- D) Natüralist roman

6. Aşağıdakilerin hangisinde fabl
türüyle ilgili bilgi yanlıştır?

- A) Sonunda her zaman bir ahlak
dersi vardır.
- B) Hem nazım hem nesir biçimin-
de yazılabilir.
- C) Anlatımı yalındır, söz sanatla-
rına yer verilmez.
- D) Öyküleyici ve lirik anlatım tür-
lerinden yararlanır.

7. Aşağıdaki fabl-masal karşılaş-
tırmalarından hangisi yanlıştır?

- A) Fabllar masallara göre daha
kısadır.
- B) Fabllar genellikle manzum
şekilde kaleme alınır, masallar
ise genellikle düzyazı şeklin-
dedir.
- C) Masallar tekerleme ile başlar,
fabllar ise tekerleme ile başla-
maz.
- D) Masalın sonuç bölümünde
olayın ana düşüncesini ifade
eden yargılar varken fabllarda
bu özellik yoktur.

8. Yaşanmış ya da yaşanabilecek
olay ya da durumların kişi, yer ve
zaman unsurlarına bağlı kalına-
rak kısaca anlatıldığı edebî türe
- - - - denir.

**Bu cümlede boş bırakılan yere
aşağıdakilerden hangisi getiril-
melidir?**

- A) masal
- B) hikâye
- C) tiyatro
- D) fabl

9. Aşağıdakilerden hangisi
dünya edebiyatında durum
hikâyeciliğinin kurucusu kabul
edilir?

- A) Anton Çehov
- B) Guy de Maupassant
- C) La Fontaine
- D) Gustave Flaubert

10. Aşağıdakilerin hangisinde bilgi
yanlıştır?

- A) Opera, operet ve bale müzikli
tiyatro türlerindedir.
- B) Komedideki kişiler çoğunlukla
yüksek tabakadan seçilir.
- C) Meddahlık hareketten çok ses
taklidi, jest ve mimiklere da-
yanır.
- D) Dramatik bir eserde konunun
ana bölümlerinden her birine
perde denir.

11. Aşağıdakilerden hangisi sanat-
sal bir metinden alınmıştır?

- A) Dağlarca'nın hesaplı sanatı,
dörtlüklerinden başlıklarına
kadar kendini her yerde göste-
riyor. Bu başlıklar, edaca öbür
ozanların başlıklarından ayrıl-
makla kalmıyor, onlarınkinden
daha başka bir iş de görüyor.
- B) Bu yılın başlarında başlayan
yağmurlar dünyayı etkisi altına
aldı. Barajları, setleri ve köp-
rülerini yıkan seller ölümcül so-
nuçlara yol açtı. Bir süre önce
Trabzon'da yaklaşık üç saat
süren yağmur, Sürmene ilçesi
ve haritadan silinen Beşköy'de
mal ve can kaybına yol açtı.
- C) Bir şiire başladığımda sonunu
getirmedikçe sinirliyimdir. Her
şey beni sikar, kavga ararım.
Şiiri bitirince de en çok iki üç
gün dinlenir, bir yenisine baş-
larım. Zaten yazacağım bitti,
demedim hiç kendi kendime.
- D) Kubbeli Salon'a girince önce
tanıyamadım, bordo kadife kol-
tukta oturan, yakışıklı yüzünde
yılışık bir ifadeyle bana bakan
adamı. Elbette Basri Bey
değildi ama birkaç adım atıp
yaklaşınca çıkardım: Mehmed
Esad.

1. OTURUM

12. Aşağıdakilerin hangisinde ayraç içindeki kavram, yapılan açıklama ile uyuşmamaktadır?

- A) Operetin daha hafif fakat hiciv, alay, eleştiri dolu bir çeşididir. (revü)
- B) Daha çok müziğin egemen olduğu baştan sona bestelenmiş bir oyun çeşididir. (absürd tiyatro)
- C) Beş altı dakikaya sığdırılan tablolar hâlinde, kısa, müzikli oyunlardır. (skeç)
- D) Amacı seyirciyi sahneye yabancılaştırmak olan gösterme- ci tiyatronun bir biçimidir. (epik tiyatro)

13. Aşağıdaki sanatçılardan hangisi olay hikâyesinin temsilcilerinden değildir?

- A) Sait Faik Abasıyanık
- B) Ömer Seyfettin
- C) Necati Cumalı
- D) Reşat Nuri Güntekin

14. Gün olur, Köprü ortasında durur, Anarım Adalar'da çamların uykusunu, Gün olur, Beyoğlu'nu özler içim, Koklamak isterim tünelin kokusunu

Bu dörtlüğe hâkim olan tema aşağıdakilerden hangisidir?

- A) Yalnızlık
- B) Ölüm
- C) Yaşama sevinci
- D) Hasret

15. Romanın tür olarak Türk edebiyatında görülmesi Fransızcadan ---- çevirdiği Fenelon'un ---- adlı eseriyse olmuştur.

Bu cümlede boş bırakılan yerlere aşağıdakilerden hangileri sırasıyla getirilmelidir?

- A) Şinasi'nin – Sefiller
- B) Namık Kemal'in – Suç ve Ceza
- C) Yusuf Kâmil Paşa'nın – Telemak
- D) Ziya Paşa'nın – Emile

16. - Batı'da ilk fabl yazarı olarak kabul edilir.
- Şeyhî'nin fabl türündeki eseridir.
- Dünyada "Masalın Babası" olarak ün yapmış olan sanatçıdır.

Bu cümlelerde aşağıdaki eser veya kişilerin hangisiyle ilgili bir bilgi verilmemiştir?

- A) Mecalisü'n Nefais
- B) Harname
- C) Aisopos (Ezop)
- D) Andersen

17. Köken olarak Yunanca olan ---- MÖ 7 ve 8. yüzyıllarda Dionysos adına düzenlenen törenlerden doğduğu varsayılmaktadır.

Bu cümlede boş bırakılan yere aşağıdakilerden hangisi getirilmelidir?

- A) hikâyenin
- B) fablın
- C) masalın
- D) tiyatronun

18. I. Koşma
II. Mesnevi
III. Türkü
IV. Sone

Numaralanmış nazım biçimlerinden hangileri halk şiirine aittir?

- A) I ve II.
- B) I ve III.
- C) II ve III.
- D) III ve IV.

19. Sev seni seveni Hak ile yeksân ise Sevme seni sevmeyeni Mısır'a sultan ise

Bu dizelerde "s" sesinin sık kullanımıyla sağlanan ahenge verilen isim aşağıdakilerden hangisidir?

- A) Cinas
- B) Aliterasyon
- C) Asonans
- D) Akrostiş

20. Halk hikâyeleriyle ilgili aşağıda verilen bilgilerden hangisi yanlıştır?

- A) 16. yüzyıldan itibaren destanların yerini tutmaya başlamıştır.
- B) Âşık dediğimiz anlatıcılar tarafından günümüze kadar getirilmiştir.
- C) Oluşum şekilleri bakımından destanla benzerlik gösterir.
- D) Kahramanlarıyla gerçek yaşamdaki insanlar arasında benzerlik yoktur.

(408) DİL VE ANLATIM – 8

1. Edebiyat Öğretmeni Ahmet Bey ---- en önemli özelliğinin dinleyicilerin tartışmaya aktif bir şekilde katılması olduğunu söylemiştir.

Bu cümlede boş bırakılan yere aşağıdakilerden hangisi getirilmelidir?

- A) münazaranın
- B) açık oturumun
- C) konferansın
- D) forumun

2. Aşağıdakilerden hangisi münazara konusu olmaya uygun bir cümledir?

- A) Su 100 derecede kaynar.
- B) Zekânın oluşumunda kalıtım mı çevre mi daha önemlidir?
- C) Yapım ekleri sözcüğün anlamını değiştirir.
- D) Bazı canlılar tek hücrelidir.

3. Düşünce ve duyguların, başkalarına sözlü olarak bildirilmesine ---- denir.

Bu cümlede boş bırakılan yere aşağıdakilerin hangisi getirilmelidir?

- A) anlatım
- B) yazılı anlatım
- C) bilimsel anlatım
- D) sözlü anlatım

1. OTURUM

4. Aşağıdakilerden hangisi açık oturumda yer alan konuşmacıların sahip olması gereken özelliklerden biri değildir?

- A) Baskıcı B) Sabırlı
C) Hoşgörülü D) Uyumlu

5. Aşağıdakilerden hangisi konferansı veren kişinin yapması gerekenlerden biri değildir?

- A) Konuyu dağıtmamalıdır.
B) Ses tonunu konuşmaya göre ayarlamalıdır.
C) Elindeki notları dinleyiciye okumalıdır.
D) Dinleyicinin dikkatini uyanık tutmaya çalışmalıdır.

6. - - - - kararlar bilimsel değer taşıması yönüyle basılı materyal hâline dönüştürülerek kamuoyuyla paylaşılır.

Bu cümlede boş bırakılan yere aşağıdakilerden hangisi getirilmelidir?

- A) Açık oturumda
B) Sempozyumda
C) Münazarada
D) Forumda

7. Aşağıdakilerden hangisi bir münazarada tartışmacıların uyması gereken davranışlardan biri değildir?

- A) Düşünceleri anlaşılır, açık ve kısa söylemek
B) Ortaya çıkan sonucu hoşgörüle karşılamak
C) Konuşmaları ilgiyle dinlemek
D) Daha önceden verilen örnekleri tekrarlamak

8. Bilimsel yazıların - - - - bölümünde makalede geçen her türlü terim ve kısaltmanın ne anlama geldiği açıklanmalıdır.

Bu cümlede boş bırakılan yere aşağıdakilerden hangisi getirilmelidir?

- A) giriş
B) özet
C) başlık
D) sonuç ve tartışma

9. Bilimsel yazılarda dil ağırlıklı olarak hangi işlevde kullanılır?

- A) Göndergesel
B) Alıcıyı harekete geçirme
C) Heyecana bağlı
D) Kanalı kontrol

10. Aşağıdakilerden hangisi bilimsel yazı olarak değerlendirilir?

- A) Hikâye özetleri
B) Şiir tahlilleri
C) Günlük metinleri
D) Toplantı özetleri

11. - Amaç dinleyicileri coşturmak değil, bir topluluğu bilgilendirmektir.
- Genellikle bilim, sanat ve ekonomi alanlarında gerçekleştirilir.
- Bir kişinin uzmanı olduğu konuyla ilgili düzenlenir.

Bu özellikler aşağıdaki sözlü anlatım türlerinin hangisine aittir?

- A) Açık oturum B) Panel
C) Konferans D) Sempozyum

12. Üniversitemizde 18-20 Aralık 2015 tarihlerinde yapılacak olan "Çocuk Eğitiminde Etik" konulu - - - - davetlilerin katılımını bekliyoruz.

Bu duyuruda boş bırakılan yere aşağıdaki sözlü anlatım türlerinden hangisi getirilmelidir?

- A) foruma
B) sempozyuma
C) münazaraya
D) açık oturuma

13. Aşağıdakilerin hangisinde bilimsel yazılarla makale türünün karşılaştırılması doğru yapılmıştır?

- A) Bilimsel yazılarda anlatılanlar kanıtlanırken makalede kanıtlanma amacı yoktur.
B) Bilimsel yazılarda ciddi, ağırbaşlı bir dil kullanılırken makalede samimi, okurla konuşur gibi bir üslup tercih edilir.
C) Bilimsel yazılar makaleye göre daha geniş bir araştırmaya dayanır.
D) Bilimsel yazılarda amaç okuyucuyu bilgilendirmek, makalede ise eğlendirmek ve güldürmektir.

14. Düzenlenen bir tartışmada başkan, dinleyicilerin de sorularını almak istediğini söylemiş ve dinleyicilere söz hakkı vermiştir. Böylece tartışma bir tür - - - - dönüşmüştür.

Bu parçada boş bırakılan yere aşağıdakilerden hangisi getirilmelidir?

- A) münazaraya B) brifinge
C) söyleve D) foruma

15. I. Konuşmaları özetlemek
II. Açık oturumun yapılış nedeni
III. Açık oturumu sonuca bağlamak
IV. Konuşmacılara sorulacak sorular
V. Açık oturumun konusu ile ilgili olayın ya da gelişmelerin anlatımı

Numaralanmış ifadelerin açık oturum planına göre doğru sıralaması aşağıdakilerden hangisidir?

- A) I – IV – V – II – III
B) II – I – IV – III – V
C) II – V – IV – I – III
D) V – I – II – IV – III

1. OTURUM

16. "Dipnot" terimi aşağıdaki cümlelerin hangisinde doğru tanımlanmıştır?

- A) Belli bir konu veya dönemle ilgili yayınları kapsayan eser
- B) Bir konu hakkındaki bilgilerin toplanması, analiz edilip duyurulması
- C) Sayfa içinde geçen herhangi bir düşünce ile ilgili sayfa altına konan açıklama
- D) Bir kitabın içindekileri yer numarasıyla belirten liste, dizin

17. Tartışmalarda dinleyicinin aşağıdakilerden hangisini yapması doğru olmaz?

- A) Konuşmacıyı dikkat ve saygıyla dinlemek
- B) Gerekli notlar alıp bunları tarafsız bir şekilde değerlendirmek
- C) Gereken noktalarda katılımcılara sorular sormak
- D) Tartışmanın ağır havasını dağıtmak için konuyla ilgisiz noktalara dikkati çekmek

18. I. Konuşmalardan sonra konuşmacılar birbirlerine konu ile ilgili soru soramazlar.
II. Sempozyum bildirisi sempozyumun sonunda dinleyici topluluğu önünde okunur.
III. Konuşmacılar metinlerini okuyucuyu sıkmadan ve konuyu dağıtmadan sunmalıdır.

Sempozyumla ilgili numaralanmış bu bilgiler doğru(D)-yanlış(Y) olarak değerlendirildiğinde sıralama aşağıdakilerden hangisi olur?

	I	II	III
A)	D	D	Y
B)	Y	D	D
C)	Y	Y	D
D)	D	Y	Y

19. Konferansta dil - - - - kullanılırken söylevde genel olarak - - - - kullanılır.

Bu cümlede boş bırakılan yerlere aşağıdakilerden hangileri sırasıyla getirilmelidir?

- A) heyecana bağlı işleviyle – göndergesel işleviyle
- B) kanalı kontrol işleviyle – şiirsel işleviyle
- C) göndergesel işleviyle – alıcıyı harekete geçirme işleviyle
- D) alıcıyı harekete geçirme işleviyle – kanalı kontrol işleviyle

20. Aşağıdakilerden hangisi açık oturum başkanının görevlerinden değildir?

- A) Tartışmanın tarafı olarak kendi düşüncelerini ispatlamaya çalışmak
- B) Konuyu ortaya atarak soruları düzenli bir şekilde sormak
- C) Meydana gelebilecek tatsız ve çirkin saldırıları önlemek
- D) Oturum sonunda genel değerlendirme yapmak

(413) TÜRK EDEBİYATI – 3

1. Aşağıdaki dönemlerden hangisi İslami Dönem Türk Edebiyatı içinde yer almaz?

- A) Cumhuriyet Dönemi Türk Edebiyatı
- B) Klasik Türk edebiyatı
- C) Anonim halk edebiyatı
- D) Âşık tarzı halk edebiyatı

2. Ay kopup evlenüp
Ak bulut örlenüp
Bir bir üzre öklünüp
Saçlıp suvi enreşür

Bir koşuktan alınan bu dörtlünün uyak düzeni aşağıdakilerden hangisidir?

- A) a-a-a-b
- B) a-b-a-b
- C) a-b-b-a
- D) a-a-b-a

3. Türkler 5. ve 9. yüzyıllar arasında aşağıdaki alfabelerden hangisini kullanmamıştır?

- A) Göktürk
- B) Uygur
- C) Sogut
- D) Latin

4. Daha hiçbir şey yokken Tanrı Kayra Han'la uçsuz bucaksız su vardı. Kayra Han'dan başka gören, sudan başka görünen yoktu. Ay, yıldızlar, gök ve toprak yaratılmamıştı. Bütün tanrıların en büyüğü, varlıkların başlangıcı, insanoğullarının da ilk atası, Tanrı Kayra Han'ın bu sade sudan âlemde canı sıkılıyordu.

Bu metin aşağıdaki destanların hangisinden alınmıştır?

- A) Alp Er Tunga Destanı
- B) Yaratılış Destanı
- C) Ergenekon Destanı
- D) Bozkurt Destanı

5. Aşağıdakilerden hangisi çağdaş Türk edebiyatında görülen destan örneklerinden biri değildir?

- A) Atatürk Kurtuluş Savaşı'nda
- B) Çakır'ın Destanı
- C) Çanakkale Destanı
- D) Danişment Gazi Destanı

6. Sözlü edebiyat ürünlerinden olan "koşuk"la ilgili aşağıda verilen bilgilerden hangisi yanlıştır?

- A) Aruz ölçüsünün genellikle 4+3'lü kalıbıyla söylenir.
- B) Aşk, tabiat, yiğitlik konuları işlenir.
- C) Halk edebiyatındaki koşmanın ilk biçimidir.
- D) Dörtlük nazım birimi kullanılır.

7. Aşağıdakilerden hangisi Göktürlere ait bir destandır?

- A) Bozkurt
- B) Türeyiş
- C) Şu
- D) Attıla

8. Türklerin en eski "sav" örnekleri aşağıdaki eserlerin hangisinde bulunmaktadır?

- A) Kutadgu Bilig
- B) Göktürk Abideleri
- C) Divanü Lügati't Türk
- D) Atabet'ül Hakayık

1. OTURUM

9. Aşağıdakilerden hangisi İslamiyet Öncesi Sözlü Dönem edebî ürünlerinden değildir?

- A) Koşuk B) Mesnevi
C) Sagu D) Destan

10. I. Attila Destanı – Hun Türkleri
II. Ergenekon Destanı – Göktürkler
III. Göç Destanı – Saka Türkleri
IV. Alp Er Tunga Destanı – Uygurlar

Yukarıda numaralanmış destan – devlet eşleştirmelerinden hangileri yanlıştır?

- A) I ve II. B) II ve III.
C) II ve IV. D) III ve IV.

11. Geçmiş zamanlara ait bir edebî eseri layıkıyla ve tarihî manasıyla anlamak için önce o devrin genel hayatını, yaşayış ve düşünüş tarzlarını, insanların hayat ve evren hakkında neler bildiklerini öğrenmemiz gerekir. Çünkü eserdeki bir düşünüş biçimini, inancı veya toplum hayatında görülen bir yeniliği içinde bulduğumuz güne göre değerlendirmek o esere haksızlık yapılmasına yol açacaktır.

Bu parçada edebî eserlerle ilgili anlatılmak istenen aşağıdakilerden hangisidir?

- A) Yazıldığı dönemin anlayışına göre değerlendirilmelidir.
B) Tarihe kaynaklık eden önemli eserler olduğu unutulmamalıdır.
C) Toplumdaki tüm değer ve anlayışlara saygılı olmalıdır.
D) Estetik zevk vermek amacıyla yazılmalıdır.

12. I. Edebî eserleri tarihsel gelişim çizgisine göre incelemek
II. Edebî bir dil oluşmasını sağlamaya çalışmak
III. Edebî dönemlerin özelliklerini belirlemek
IV. Edebî türlerin gelişimini ortaya koymak

Yukarıda numaralanmış ifadelerden hangisi edebiyat tarihinin işlevlerinden biri değildir?

- A) I. B) II. C) III. D) IV.

13. Türk edebiyatının dönemlere ayrılmasında aşağıdakilerden hangisi etkili olmamıştır?

- A) Din anlayışı
B) Kültürel farklılaşma
C) Dil coğrafyası
D) Alfabe değişikliği

14. Orhun Abideleri, bir önderin ulusuna seslenişi, ona hesap veriş ve önerilerde bulunuşu yönünden - - - - özelliği gösterir.

Bu cümlede boş bırakılan yere aşağıdakilerden hangisi getirilmelidir?

- A) nutuk B) hikâye
C) mülakat D) fıkra

15. Aşağıdakilerden hangisi eski Türk şairlerinin görevleri arasında yer almaz?

- A) Hastaları iyileştirmek
B) Tanrılara kurban sunmak
C) Savaş kararlarını vermek
D) Ölenlerin arkasından ağıtlar söylemek

16. Aşağıdaki destan – sanatçı eşleştirmelerinden hangisi yanlıştır?

- A) Çakır'ın Destanı – Fazıl Hüsnü Dağlarca
B) Kurtuluş Savaşı Destanı – Nazım Hikmet
C) Sakarya Meydan Savaşı – Orhan Asena
D) Maraş'ın ve Ökkeş'in Destanı – Gülten Akın

17. Kargı çuvaç kuruldu
Tugum tiklip uruldu
Süsi otun oruldu
Kaңçuk kaçır ol tutar

Bu dizelerle ilgili aşağıdakilerden hangisi söylenemez?

- A) 4+3'lü hece ölçüsüyle oluşturulmuştur.
B) Sözcük hâlinde redif kullanılmıştır.
C) Uyak düzeni "aaab" şeklindedir.
D) Nazım birimi dördüktür.

18. Kar buz tümü eridi
Dağların suları akıştı
Mavi bulut yükseldi
Kayık gibi sallanır.

Günümüz Türkçesiyle verilen bu koşuk dizeleri, konusuna göre aşağıdaki şiir türlerinden hangisine örnektir?

- A) Pastoral B) Didaktik
C) Satirik D) Epik

19. Aşağıdakilerden hangisi İslamiyet sonrası Türk destanlarından değildir?

- A) Bozkurt B) Ergenekon
C) Köroğlu D) Türeyiş

20. Aşağıdakilerden hangisi Türk destanlarında görülen mitolojik unsurlardan biri değildir?

- A) Ağaç B) Kopuz
C) Işık D) Demir

(414) TÜRK EDEBİYATI – 4

1. Divan edebiyatında çeşitli devirlerde yaşayan şairlerin hayat hikâyelerinden ve eserlerinden kısaca bahseden kitaplara - - - - denir.

Bu cümlede boş bırakılan yere aşağıdakilerden hangisi getirilmelidir?

- A) ruzname B) seyahatname
C) tezkire D) surname

2. Karahanlılar Dönemi ilk edebiyat ürünü aşağıdakilerden hangisidir?

- A) Kutadgu Bilig
B) Divanü Lügati't Türk
C) Atabetü'l Hakayik
D) Divan-ı Hikmet

3. Aşağıdaki halk hikâyelerinden hangisi sevda konulu değildir?

- A) Kerem ile Aslı
B) Âşık Garip
C) Kırmanşah
D) Elif ile Mahmud

1. OTURUM

4. Atabetü'l Hakâyık ile ilgili aşağıda verilen bilgilerden hangisi doğru değildir?

- A) Yürekli Edip Ahmet tarafından yazılmıştır.
- B) "Mutluluk veren bilgi" anlamına gelen öğretici bir eserdir.
- C) Eser Allah'a, Peygamber'e, dört halifeye ve eserin sunulduğu beye övgü ile başlar.
- D) Eserde edep, ahlak, töre ve dinî konularda öğütler verilmiştir.

5. (I) Divan-ı Hikmet XII. yüzyıl Orta Asya Türkçesinin en etkili ve güzel eserlerinden biridir. (II) Hoca Ahmet Yesevi'nin "hikmet" adını verdiği şiiirlerinin toplandığı bir eserdir. (III) Öğretici bir eser olan Divan-ı Hikmet, olgun insanın özelliklerini, var oluşumuzun nedenlerini anlatır. (IV) Hikmetler, gazel nazım biçimiyle ve aruz ölçüsüyle yazılmıştır.

Bu parçada numaralanmış cümlelerin hangisinde Divan-ı Hikmet adlı eser ve "hikmet"ler hakkında yanlış bilgi vardır?

- A) I. B) II. C) III. D) IV.

6. XIII. yüzyılın ikinci yarısı ile XIV. yüzyılın başlarında yaşamıştır. Medrese eğitimi görmüş, Farsçanın yaygın olarak kullanıldığı dönemlerde duygu ve düşüncelerini sade Türkçe ile halkın anlayabileceği tarzda söylemiş bir şairdir. İlahi adı verilen şiiirlerinde Allah aşkını, insan sevgisini ve hoşgörüyü işlemiştir. İlahi türünün en önemli ismidir.

Bu parçada hakkında bilgi verilen şair aşağıdakilerin hangisidir?

- A) Mevlâna
- B) Yunus Emre
- C) Hacı Bektaşî Veli
- D) Ahmed Fakih

7. XIV. yüzyıl klasik edebiyat şairlerindedir. İran edebiyatındaki incelikleri Türk edebiyatına başarıyla uygulamıştır. Tasavvuf düşüncesinin yaygın olduğu XIV. yüzyılda din dışı konularda şiiirler yazmıştır. Kaside, gazel ve mesnevilerinde aşk duygusunu işlemiştir. Kendisinden sonra gelenler üzerinde büyük etkisi olan şairin "Cemşid ü Hurşid" adlı bir mesnevisi vardır.

Bu parçada hakkında bilgi verilen divan şairi aşağıdakilerden hangisidir?

- A) Fuzuli B) Nabi
- C) Nef'i D) Ahmedi

8. Aşağıdakilerin hangisi divan şiiirinde beyitlerle kurulan nazım şekillerinden değildir?

- A) Gazel B) Kaside
- C) Rubai D) Mesnevi

9. Kasidelerde asıl konuya giriş bölümüne - - - - , kasidenin sunulduğu kişinin övüldüğü bölüme - - - - , şairin kendisini övdüğü bölüme - - - - adı verilir.

Bu cümlede boş bırakılan yerlere sırasıyla aşağıdakilerden hangileri getirilmelidir?

- A) nesip- tegazzül- girizgah
- B) girizgah- methiye- fahiye
- C) girizgah- tegazzül- fahiye
- D) teşbib- medhiye- taç

10. Arasam yâri bulurdum
Yoluna kurban olurdum
Bir gün görmesem ölürdüm
Gör neyledi zaman şimdi

Bu şiiirin nazım türü aşağıdakilerin hangisidir?

- A) Koçaklama B) Taşlama
- C) Güzelleme D) Ağıt

11. Çok konuşma, sözü az ve birer söyle
Yüz binin düğümünü bu bir sözde çöz

Bu dizelerden aşağıdakilerin hangisine ulaşamaz?

- A) Az ve öz konuşulmalıdır.
- B) Sözü iyice düşünerek kullanmak gerekir.
- C) Söylenecek söz bir ihtiyacı karşılamalıdır.
- D) Konuşmalarda tonlamaya dikkat edilmelidir.

12. Divanü Lügati't Türk ile ilgili olarak aşağıdaki bilgilerden hangisi yanlıştır?

- A) Türkçenin bilinen ilk sözlük çalışması olarak kabul edilmektedir.
- B) Siyasetnâme türünün edebiyatımızdaki ilk örneğidir.
- C) Kaşgarlı Mahmut tarafından kaleme alınmıştır.
- D) Araplara Türkçe öğretmek amacıyla yazılmıştır.

13. Aşağıdaki gazel ile ilahi karşılaştırmalarından hangisinde bilgi yanlıştır?

- A) İlahilerde genelde hece, gazelerde ise aruz ölçüsü kullanılmıştır.
- B) İlahilerde dinî, gazelerde din dışı konular ele alınmıştır.
- C) İlahileri söyleyenler belliyken gazeller anonim ürünlerdir.
- D) İlahilerde dörtlük, gazelerde beyit kullanılmıştır.

14. Aşağıdakilerden hangisi halk edebiyatının destan geleneğine bağlı eserlerden biri değildir?

- A) İskendernâme
- B) Battalnâme
- C) Danişmendnâme
- D) Saltuknâme

1. OTURUM

15. Bir ön söz ve on iki hikâyeden oluşan eser Türk edebiyatında çok önemli bir yere sahiptir. Eser Türklerin o dönem örf, âdet, toplum ve aile yapısını bir kahraman etrafında çoğunlukla yiğitlik havasında yansıtır. Türk dilinin 13-14. yüzyıl özelliklerini yansıtmaya açısından da oldukça önemlidir. Ayrıca eser halk hikâyesi olarak değerlendirilse de büyük bir destan parçası görünümündedir.

Bu parçada sözü edilen eser aşağıdakilerden hangisidir?

- A) Battalnâme
- B) Danişmendnâme
- C) Cemşid ü Hurşit
- D) Dede Korkut Hikâyeleri

16. Aşağıdaki eser-sanatçı eşleştirmelerinden hangisi yanlıştır?

- A) Mantiku't Tayr – Gülşehri
- B) Harnâme – Süleyman Çelebi
- C) Hüsn ü Aşk – Şeyh Galip
- D) Makalat – Hacı Bektaşî Veli

17. Mutasavvıf, şair ve "Bilginler Sultanı" olarak anılır. Eserlerinde hoşgörü ve iyiliği öğütler. En önemli eseri olan "Mesnevi"de ayetler, hadisler, şiir alıntıları ve kısa öykülerle Allah'a ulaşmanın yollarını anlatır.

Bu parçada tanıtılan sanatçı aşağıdakilerden hangisidir?

- A) Mevlâna
- B) Ahmedi
- C) Baki
- D) Nabi

18. Aşağıdakilerden hangisi divan edebiyatının özelliklerinden değildir?

- A) Aruz ölçüsü kullanılmıştır.
- B) Nazım birimi çoğunlukla beyittir.
- C) Tam ve zengin uyak tercih edilmiştir.
- D) Söz sanatları ve imgeden uzak durulmuştur.

19. XVII. yüzyıl sanatçılarından Lale Devri'nin İstanbul'unu yansıtan şiirleriyle tanınmıştır. Mahallileşme anlayışının temsilcisi olan sanatçı, şarkı türünün ustası olarak kabul edilir.

Bu parçada tanıtılan sanatçı aşağıdakilerden hangisidir?

- A) Nedim
- B) Nef'i
- C) Baki
- D) Nabi

20. Aşağıdaki türlerden hangisi öğretici metin değildir?

- A) Seyahatnâme
- B) Tezkire
- C) Mektup
- D) Kaside

(415) TÜRK EDEBİYATI – 5

1. İnsan ve toplum yaşantısından doğan bütün olay, duygu, düşünce ve hayallerin söz ve yazı ile güzel ve etkili bir biçimde anlatılmasına - - - - denir.

Bu cümlede boş bırakılan yere aşağıdakilerden hangisi getirilmelidir?

- A) edebiyat
- B) sanat
- C) metin
- D) kültür

2. "Şair Evlenmesi" adlı eser için aşağıdakilerden hangisi söylenemez?

- A) Batı tekniğiyle yazılan bir perdelik komedidir.
- B) Edebiyatımızda yazılan ilk tiyatro eseridir.
- C) Namık Kemal tarafından yazılmıştır.
- D) Türk toplumuna ait yöresel bir konu işlenmiştir.

3. Aşağıdaki eserlerden hangisi farklı bir sanatçıya aittir?

- A) Akif Bey
- B) Zavallı Çocuk
- C) Araba Sevdası
- D) Kara Bela

4. Aşağıdakilerden hangisi edebiyatımızın ilk yerli romanı sayılmaktadır?

- A) İntibah
- B) Taaşşuk-ı Talat ve Fitnat
- C) Araba Sevdası
- D) Tercüme- i Manzume

5. Bu eser, şairin eşi Fatma Hanım'ın ölümü üzerine yazdığı bir mersiyedir. Şair, ölüm karşısındaki duygu ve düşüncelerini, acılarını, feryatlarını dile getirmiştir. Zaman zaman ölümü, yaşamı sorgulamış, içinde yaşadığı fırtınaları ve tezatlarla dolu karmakarışık duygularını ortaya koymuştur.

Bu parçada sözü edilen eser aşağıdakilerden hangisidir?

- A) Sahra
- B) Ölü
- C) Bunlar Odur
- D) Makber

6. Aşağıdakilerden hangisi Birinci Dönem Tanzimat Edebiyatı için söylenemez?

- A) "Sanat için sanat" anlayışı benimsenmiş, ağır bir dil kullanılmıştır.
- B) Bu dönem sanatçıları şiirin içeriğini değiştirmiştir.
- C) Batı edebiyatından ilk çeviriler yapılmıştır.
- D) Roman, makale, deneme gibi türler edebiyatımıza girmiştir.

7. Tercüman-ı Ahval gazetesinin ilk sayısında yayımlanan "Tercüman-ı Ahval Mukaddimesi" - - - - türünün ilk örneğidir.

Bu cümlede boş bırakılan yere aşağıdakilerden hangisi getirilmelidir?

- A) gezi yazısı
- B) makale
- C) eleştiri
- D) günlük

1. OTURUM

8. Doğu edebiyatını çok iyi öğrenmiştir. Hem klasik tarzda hem de yeni anlayışla şiirler yazmakla birlikte eskiye daha çok bağlı kalmıştır. Tercüman-ı Hakikat ve Saadet gazetelerinde Rezaizade Mahmut Ekrem ve Abdülhak Hamit'e karşı edebî düşüncelerini savunmuştur. Sanatçının "Ateşpare, Şerare, Füzuzan, Demdeme" adlı şiir kitapları vardır.

Bu parçada tanıtılan Tanzimat Dönemi sanatçısı aşağıdakilerden hangisidir?

- A) Namık Kemal
- B) Samipaşazade Sezai
- C) Ahmet Mithat Efendi
- D) Muallim Naci

9. Namık Kemal'le ilgili aşağıda verilen bilgilerden hangisi yanlıştır?

- A) "Vatan şairi" olarak tanınan sanatçı edebiyatımızın pek çok alanında eser verdi.
- B) İlk kez noktalama işaretlerini kullanan sanatçıdır.
- C) Eserlerinde vatan, hürriyet, ulus, özgürlük gibi kavramları işledi.
- D) Oynanan ilk tiyatro olan "Vatan yahut Silistre"yi yazdı.

10. Aşağıdaki eserlerden hangisinin türü farklıdır?

- A) Kara Bela
- B) Gülnihal
- C) Cezmi
- D) İçli Kız

11. Edebiyatımızda 1919-1923 yılları arasında verilen eserlere baktığımızda ağırlıklı olarak vatan sevgisi, cesaret, savaşın olumsuzlukları gibi konuların ele alındığını görüyoruz.

Bu bilgiden edebiyatla ilgili çıkarılacak sonuç aşağıdakilerden hangisidir?

- A) İçinde bulunduğu toplumun sosyal ve siyasi yapısından etkilenir.
- B) Sosyoloji, tarih, felsefe gibi bilim dallarıyla yakın ilişki içindedir.
- C) Toplumların yönlendirilmesinde önemli bir rol oynar.
- D) Gerçekleri olduğu gibi yansıtan bir sanat dalıdır.

12. 3 Kasım 1839'da Gülhane Parkı'nda okunan ferman ile o güne kadar dağınık olarak yapılan düzenlemeler derli toplu hâle getirilerek devlet kurumları Batı esaslarına göre yapılandırılmaya başlanmıştır. Bu fermanla Batı düşüncesi, yaşama biçimi ve Batı'daki gelişmelerin örnek alınacağı ilan edilmiştir.

Bu parçada sözü edilen ferman aşağıdakilerden hangisidir?

- A) Islahat Fermanı
- B) Tanzimat Fermanı
- C) Kanuni Esasi
- D) Tevhidi Tedrisat Kanunu

13. I. Avrupa'ya öğrenci gönderilmesi
II. İlk özel gazetenin çıkarılması
III. İlk edebî romanın yayımlanması
IV. Meşrutiyet'in ilan edilmesi

Yukarıda numaralanmış gelişmelerden hangileri Tanzimat edebiyatının oluşumunda etkili olmuştur?

- A) I ve II.
- B) I ve III.
- C) II ve III.
- D) II ve IV.

14. Tanzimat Dönemi'nde gazeteciliğin gelişmesi ile edebiyatımıza ----, ----, ---- gibi türler girmiştir.

Bu cümlede boş bırakılan yerlere aşağıdakilerden hangisi getirilemez?

- A) makale
- B) deneme
- C) mektup
- D) fıkra

15. Aşağıdaki eserlerden hangisi tür yönüyle diğerlerinden farklıdır?

- A) İçli Kız
- B) Küçük Şeyler
- C) Âkif Bey
- D) Şair Evlenmesi

16. Akıl ve sağduyuya dayanan ---- akımına karşılık ---- akımında hayaller, duygular ve coşkular önem kazanmıştır.

Bu cümlede boş bırakılan yerlere aşağıdakilerden hangileri sırasıyla getirilmelidir?

- A) realizm – klasisizm
- B) klasisizm – romantizm
- C) parnasizm – realizm
- D) sembolizm – romantizm

17. Edebiyatımızda tutsaklık ve insan ticareti üzerine yazılmış eserlerin en ünlüsüdür. Eserde Dilber adlı bir kahramanın etrafında tutsaklık teması ve görücü usulü ile evlenmenin yanlış yönleri ele alınmıştır.

Bu parçada tanıtılan eser aşağıdakilerden hangisidir?

- A) Sergüzeşt
- B) İntibah
- C) Zavallı Kız
- D) Dünyaya İkinci Geliş

18. Sanatçının edebiyatımıza en önemli katkılarından biri Batı yanlısı gençleri Servet-i Fünûn dergisi etrafına toplamasıdır. Edebiyat kurallarını öğreten Talim-i Edebiyat adlı eseri ve yaptığı çalışmalardan dolayı döneminde "üstat" olarak tanınmıştır.

Bu parçada tanıtılan sanatçı aşağıdakilerden hangisidir?

- A) İbrahim Şinasi
- B) Namık Kemal
- C) Hüseyin Cahit Yalçın
- D) Rezaizade Mahmut Ekrem

19. Tanzimatçılar "toplum için sanat" görüşünü benimsemişlerdir. Bu amaçla edebî metni, ----.

Bu parçanın son cümlesi düşüncenin akışına göre aşağıdakilerden hangisiyle tamamlanmalıdır?

- A) kişisel çıkarları için oluşturmuşlardır
- B) imge ve söz sanatlarıyla süslemişlerdir
- C) halkı eğitmede bir araç olarak görmüşlerdir
- D) bireysel konulara ağırlık vermişlerdir

1. OTURUM

20. Tanzimat Dönemi'nde önemli dil ve sözlük çalışmaları yapan sanatçı aşağıdakilerden hangisidir?

- A) Şemsettin Sami
- B) Sami Paşazade Sezai
- C) Abdülhak Hamit Tarhan
- D) Ahmet Mithat Efendi

(416) TÜRK EDEBİYATI – 6

1. Aşağıdakilerden hangisi servetifünun sanatçılarından değildir?

- A) Tevfik Fikret
- B) Cenap Şahabettin
- C) Namık Kemal
- D) Hüseyin Suat

2. Servetifünun Dönemi sanatçılarından olan - - - -, "Şiirimiz" adıyla Servet-i Fünun dergisinde yayımladığı uzun makalesinde topluluğun sanat anlayışını dile getirmiştir. Sanatçının edebî görüşlerini ifade eden eleştiri yazıları bu dönemde önemli bir yer tutmuştur.

Bu parçada boş bırakılan yere aşağıdakilerden hangisi getirilmelidir?

- A) Hüseyin Cahit Yalçın
- B) Ahmet Hikmet Müftüoğlu
- C) Süleyman Nazif
- D) Ali Ekrem Bolayır

3. Servet-i Fünun dergisi, 1901 yılında - - - - tarafından yazılan "Edebiyat ve Hukuk" adlı çevirinin yayımlanmasıyla kapatılmış ve servetifünun topluluğu da dağıtılmıştır.

Bu parçada boş bırakılan yere aşağıdakilerden hangisi getirilmelidir?

- A) Hüseyin Cahit Yalçın
- B) Ahmet Hikmet Müftüoğlu
- C) Halit Ziya Uşaklıgil
- D) Mehmet Rauf

4. Aşağıdaki eser-tür eşleştirmelerinden hangisi yanlıştır?

- A) Kırk Yıl - hatıra
- B) Avrupa Mektupları - şiir
- C) Eylül - roman
- D) Son Emel - hikâye

5. Aşağıdakilerden hangisi 1911'de Selanik'te çıkarılan ve Millî Edebiyat Dönemi'nin başlamasında etkili olan dergidir?

- A) Servetifünun
- B) Türk Yurdu
- C) Genç Kalemler
- D) Yeni Mecmua

6. I. Nazmı nesirden olabildiğince uzaklaştırdı.

II. Türkçeyi aruza ustalıkla uyguladı.

III. Batı edebiyatlarında görülen sone, terza rima gibi nazım şekillerini kullandı.

IV. Eserlerinde toplumsal konuları hiç işlemedi.

Tevfik Fikret'le ilgili yukarıda numaralanmış bilgilerden hangileri yanlıştır?

- A) I ve II.
- B) I ve IV.
- C) II ve III.
- D) III ve IV.

7. Bu eserde yazar, olaylardan çok, kişilerin olaylara karşı tepkileri üzerinde durmuştur. Kişilerin olaylar karşısındaki ruhsal durumları ayrıntılarıyla işlenmiştir. Eserde; sonbahar, havanın durumu, Boğaziçi'nin doğal güzellikleri, aşk ve müzik gibi konular Suad, Süreyya ve Necip arasındaki ilişki ile ele alınır. Suad ile Necip'in arasındaki soyut aşk anlayışı somut bir yangınla bitirilir.

Bu parçada tanıtılan Servetifünun Dönemi romanı aşağıdakilerden hangisidir?

- A) Aşk-ı Memnu
- B) Mai ve Siyah
- C) Son Emel
- D) Eylül

8. Aşağıdakilerden hangisi fecriati topluluğunun edebiyatta gerçekleştirmek istediği amaçlardan biri değildir?

- A) Genç yetenekleri bir araya getirmek ve toplumu aydınlatmak
- B) Öz Türkçe anlayışını başlatarak dili sadeleştirmek
- C) Üyelerin eserlerinden oluşan bir kütüphane kurmak
- D) Toplantılar düzenleyip halkı edebiyat ve sanat konularında bilgilendirmek

9. Aşağıdakilerden hangisi Millî Edebiyat Dönemi'nde Türkçülük akımının kültür ve edebiyat alanındaki yayın organlarından biri değildir?

- A) Türk Derneği
- B) Türk Yurdu
- C) Varlık
- D) Türk Ocağı

10. "Toplum için sanat" anlayışını benimsemiş. Bir şiirinde "Hayır, hayal ile yoktur benim alışverişim / İnan her ne demişsem görüp de söylemişim" diyen şair, şiir anlayışını ortaya koymuştur. Nazmı nesre yaklaştıran şair tüm şiirlerini yedi bölümden oluşan "Safahat" adlı kitapta toplamıştır.

Bu parçada tanıtılan sanatçı aşağıdakilerden hangisidir?

- A) Mehmet Akif Ersoy
- B) Ali Canip Yöntem
- C) Ziya Gökalp
- D) Mehmet Emin Yurdakul

11. Servetifünun edebiyatının üç önemli isminden biridir. Gelenekçi şairlerin o dönemde en çok saldırdığı yenilikçi şairdir. Şiire "nesir musikisi" diyen sanatçı, şiirlerini "Tamat" ve "Evrak-ı Leyal" adlı kitaplarda topladı.

Bu parçada söz edilen sanatçı aşağıdakilerden hangisidir?

- A) Tevfik Fikret
- B) Cenap Şahabettin
- C) Hüseyin Cahit Yalçın
- D) Mehmet Âkif Ersoy

12. Aşağıdaki eserlerden hangisi öğretici metin olarak değerlendirilemez?

- A) Kırk Yıl
- B) Şiirimiz
- C) Avrupa Mektupları
- D) Rübab-ı Şikeste

1. OTURUM

13. Realizm akımının şiire yansımış biçimidir. Bu akım şiirdeki gerçekçiliktir. "Sanat için sanat" anlayışına bağlı kalınarak duygudan çok tasvire, düşünceye, biçim ve söyleyiş güzelliğine önem verilir.

Bu parçada tanıtılan edebî akım aşağıdakilerden hangisidir?

- A) Klasisizm
- B) Romantizm
- C) Parnasizm
- D) Sembolizm

14. Düzyazı cümleleriyle yazılmış şiirlerdir. Ses, söyleyiş ve tema bakımından şiire; şekil bakımından ise düzyazıya benzer. Vezin, kafiye gibi şekle ait önceden belirlenmiş sınırlayıcı öğeler bulunmadığı için yazan kişi duygularını daha rahat ifade eder.

Bu parçada sözü edilen tür aşağıdakilerden hangisidir?

- A) Terzarima
- B) Mensur şiir
- C) Manzum hikâye
- D) Serbest müstezat

15. Aşağıdaki sanatçılardan hangisi fecriati topluluğunda yer almıştır?

- A) Mehmet Rauf
- B) Tevfik Fikret
- C) Tahsin Nahit
- D) Ziya Gökalp

16. Aşağıdaki sanatçılardan hangisi realizm akımına bağlı değildir?

- A) Moliere
- B) Balzac
- C) Tolstoy
- D) Stendhal

17. Romanlarında hissî ve sosyal konuları bir arada işleyen yazar, küçük hikâyelerinde bunların yanına mizahı da dâhil eder. Roman, hikâye, tiyatro, gezi yazısı türlerinde eser veren sanatçının "Çalığışu, Dudaktan Kalbe, Acımak" önemli eserlerindedir.

Bu parçada tanıtılan sanatçı aşağıdakilerden hangisidir?

- A) Mehmet Emin Yurdakul
- B) Ömer Seyfettin
- C) Halide Edip Adıvar
- D) Reşat Nuri Güntekin

18. Fecriati topluluğunun en önemli ismidir. Özellikle şiir türündeki eserleriyle tanınmıştır. Saf şiir anlayışına bağlı kalan sanatçı Fransız sembolist şairlerden etkilenmiştir. Edebiyatımızda sembolizm akımının en önemli temsilcisi olarak kabul edilmiştir. Şiirlerinin tamamını aruzla yazan sanatçı şiirde anlam kapalılığına önem vermiştir.

Bu parçada hakkında bilgi verilen sanatçı aşağıdakilerden hangisidir?

- A) Ahmet Haşim
- B) Mehmet Rauf
- C) Tevfik Fikret
- D) Cenap Şahabettin

19. Aşağıdakilerin hangisinde Halide Edip Adıvar'ın anı türündeki eserleri bir arada verilmiştir?

- A) Dağa Çıkan Kurt – Mor Salkımlı Ev
- B) Kalp Ağrısı – Harap Mabetler
- C) Mor Salkımlı Ev – Türk'ün Ateşle İmtihanı
- D) Türk'ün Ateşle İmtihanı – Kalp Ağrısı

20. I. Sone
II. Gazel
III. Terzarima
IV. Koşma
V. Serbest müstezat

Yukarıda numaralanmış nazım biçimlerinden hangileri Servetifünun Dönemi'nde kullanılmıştır?

- A) I, II ve IV.
- B) I, III ve V.
- C) II, III ve IV.
- D) III, IV ve V.

(417) TÜRK EDEBİYATI – 7

1. Halikarnas Balıkcısı takma adıyla hikâye ve roman yazmış olan - - - - , eserlerinde tabiatı ve insanı bir şiir duygusu içinde anlatmıştır.

Bu cümlede boş bırakılan yere aşağıdakilerden hangisi getirilmelidir?

- A) Tarık Buğra
- B) Cevat Şakir Kabaağaçlı
- C) Haldun Taner
- D) Yaşar Kemal

2. Varlık dergisinde ölçüsüz, uyaksız, şairanelikten uzak yeni bir şiir akımı başlatan - - - - ; konuşma dilinin yalınlığıyla yaşama sevincini, günlük yaşamı, küçük adamın dertlerini konu edinmiş, dönemin ünlü şairlerini de etkilemişlerdir.

Bu cümlede boş bırakılan yere aşağıdakilerden hangisi getirilmelidir?

- A) II. Yeniciler
- B) Yedi Meşaleciler
- C) Garipçiler
- D) Beş Hececiler

3. Aşağıdakilerden hangisi Cumhuriyet Dönemi'nde yaygınlaşan günlük türünün öncülerindedir?

- A) Peyami Safa
- B) Cahit Külebi
- C) Tarık Buğra
- D) Salah Bırsel

4. Türk edebiyatında ilk gezi yazısı örneği aşağıdaki sanatçılardan hangisine aittir?

- A) Evliya Çelebi
- B) Katip Çelebi
- C) Seydi Ali Reis
- D) Ahmet Haşim

5. Bir kimsenin kendi başından geçenleri veya tanık olduğu olayları anlattığı esere - - - - denir.

Bu cümlede boş bırakılan yere aşağıdakilerden hangisi getirilmelidir?

- A) deneme
- B) makale
- C) gezi yazısı
- D) hatıra

6. Aşağıdakilerden hangisi Cumhuriyet Dönemi gelişmeleri arasında yer almaz?

- A) Harf Devrimi'nin yapılması
- B) Türk Dil Kurumunun açılması
- C) İlk özel gazetenin çıkarılması
- D) Çok partili sisteme geçilmesi

1. OTURUM

7. Anadolu köy seyirlik oyunlarını ve geleneksel popüler halk tiyatrosunu çağdaş sanatsal etkinlikleri besleyecek önemli kaynaklar olarak görmüştür. “Koçyiğit Köroğlu, Bir Pazar Günü, Köşebaşı” tiyatro türündeki önemli eserlerindendir.

Bu parçada tanıtılan sanatçı aşağıdakilerden hangisidir?

- A) Ahmet Kutsi Tecer
- B) Fazıl Hüsnü Dağlarca
- C) Abdurrahim Karakoç
- D) Memduh Şevket Esendal

8. Aşağıdakilerden hangisi İkinci Yeni akımının sanatçıları arasında sayılamaz?

- A) Cemal Süreyya
- B) Cahit Külebi
- C) Edip Cansever
- D) Turgut Uyar

9. Aşağıdakilerden hangisi dene-me için doğru bir bilgi değildir?

- A) Her türlü konu üzerine yazılabilir.
- B) Kesin hükümlere varılır.
- C) Samimi bir dil kullanılır.
- D) Katı kuralları yoktur.

10. Aşağıdaki eser - sanatçı eşleştirmelerinden hangisi yanlıştır?

- A) Fatih Harbiye – Peyami Safa
- B) Kuyucaklı Yusuf – Sabahattin Ali
- C) Benim Adım Kırmızı – Orhan Pamuk
- D) Anayurt Oteli – Yaşar Kemal

11. Aşağıdaki sanatçılardan hangisi Beş Hececiler topluluğunda yer almaz?

- A) Enis Behiç Koryürek
- B) Mehmet Emin Yurdakul
- C) Faruk Nafiz Çamlıbel
- D) Halit Fahri Ozansoy

12. “Anadolucu” ya da “memleketçi” **edebiyat anlayışına ilk tepki aşağıdaki grupların hangisinden gelmiştir?**

- A) Maviciler
- B) Yedi Maşeleciler
- C) İkinci Yeniciler
- D) Garipçiler

13. I. Ahmet Hamdi Tanpınar şiirlerinde ölüm, sonsuzluk, zaman, rüya gibi konuları işledi.
II. Necip Fazıl Kısakürek içe dönük, maneviyatçı, bireyci şiirin örneklerini verdi.
III. Cahit Sıtkı Tarancı, şiirleriyle millî bilinci oluşturmaya çalışmıştır.
IV. Ömer Bedrettin Uşaklı, şiirlerinde en çok deniz temasını işlemiştir.
V. Ziya Osman Saba, şiirlerinde mistisizm ile tasavvufu birleştirmiştir.

Yukarıda numaralanmış cümlelerin hangilerinde bilgi yanlıştır vardır?

- A) I ve II. B) II ve IV.
- C) III ve V. D) IV ve V.

14. II. Dünya Savaşı'ndan sonra yetişen hikâye ve roman yazarlarımızdandır. Eserlerinde tabiat ve insan sevgisi ağır basar. Romanı destana yaklaştıran sanatçının “Ölmez Otu” adlı romanı önemli eserlerindendir.

Bu parçada tanıtılan sanatçı aşağıdakilerden hangisidir?

- A) Yaşar Kemal
- B) Kemal Tahir
- C) Haldun Taner
- D) Orhan Pamuk

15. Cumhuriyet Dönemi hikâye ve romanı için aşağıdakilerden hangisi doğrudur?

- A) Teknik açıdan oldukça başarısız eserler ortaya konmuştur.
- B) Sade ve anlaşılır bir dil kullanılmıştır.
- C) Toplumsal değil bireysel konular ele alınmıştır.
- D) Parnasizm ve sembolizm akımlarının etkisi görülür.

16. Toplumdaki hızlı değişimin ekonomik nedenlerden çok ahlaki sonuçları üzerinde duran Necip Fazıl Kısakürek; ----, ----, ---- gibi tiyatro eserlerinde manevi değerlerimizin yitirilmekte olduğunu ve bu değerlere sahip çıkılması gerektiğini işlemiştir.

Bu cümlede boş bırakılan yerlere aşağıdakilerden hangisi getirilemez?

- A) Tohum
- B) Künye
- C) Kadınlar Arasında
- D) Bir Adam Yaratmak

17. Aşağıdaki eser – tür eşleştirmelerinden hangisi yanlıştır?

- A) Keşanlı Ali Destanı – tiyatro
- B) Anayurt Oteli – roman
- C) Otuz Beş Yaş – şiir
- D) Mavi Sürgün – hikâye

18. Cumhuriyet Dönemi'nde mizah edebiyatı güldürürken düşündürmeyi amaçlayan bir mizah anlayışıyla yepyeni boyutlar kazanmıştır. Bu alanda ----, ----, ---- gibi yazarlar başarılı eserler vermişlerdir.

Bu parçada boş bırakılan yerlere aşağıdakilerden hangisi getirilemez?

- A) Aziz Nesin
- B) Nazım Hikmet
- C) Rıfat Ilgaz
- D) Muzaffer İzgü

19. Aşağıdakilerden hangisi ilk resmî gazetedir?

- A) Takvim-i Vakayi
- B) Ceride-i Havadis
- C) Tercüman-ı Ahval
- D) Tercüman-ı Hakikat

1. OTURUM

20. I. Bilimsel gerçekleri ortaya koyma zorunluluğu yoktur.
II. Estetik bir zevk uyandırmak amacıyla kaleme alınır.
III. Okuyucuyu uyarmak ve düşünmeye yöneltmek amaçlanmıştır.
IV. Yaşanan olaylarla ilgili duygu ve düşünceler günü gününe yazılır.

Yukarıda numaralanmış özelliklerden hangileri fıkra türüne aittir?

- A) I ve III. B) II ve III.
C) II ve IV. D) III ve IV.

(418) TÜRK EDEBİYATI – 8

1. Aşağıdakilerden hangisi şiirde ahengi sağlayan öğelerden değildir?

- A) Ölçü B) Uyak
C) Aliterasyon D) Tema

2. On yıl var ayrım Kına Dağı'ndan
Baba ocağından, yâr kucağından
Bir çiçek dermeden sevgi
bağından
Huduttan hududa atılmışım ben

Bu dizelerden aşağıdakilerden hangisi çıkarılamaz?

- A) Sılaya duyulan özlem
B) Hayvan sevgisi
C) Sevgiliye hasret
D) Gurbette olmanın hüznü

3. Tutun kızlar tutun birleşsin eller,
Çalın sazlar çalın; kırılınsın teller
Dönün kızlar dönün, kıvrılınsın beller
Siyah uzun saçlar tel tel çözülsün

Bu dizelerle ilgili olarak aşağıdakilerden hangisi söylenemez?

- A) Ek hâlinde redif vardır.
B) Hece ölçüsü ile yazılmıştır.
C) Tam uyak kullanılmıştır.
D) Sanatlı ve süslü bir söyleyişe sahiptir.

4. Aşağıdakilerden hangisi İkinci Yeni şiirinin özelliklerinden değildir?

- A) Soyut ve kapalı bir anlatımı vardır.
B) Biçim önemlidir ve bunun gerekli olduğu anlayışı hâkimdir.
C) Günlük konuşma dilinden uzak, çağrışımlı ve sezdirmeli bir üslubu vardır.
D) Konular halktan, folklordan, türkülerden seçilmiş ve tabiat güzelliklerine yer verilmiştir.

5. Aşağıdaki eserlerden hangisi ait olduğu dönem itibarıyla diğerlerinden farklıdır?

- A) Anayurt Oteli
B) Sodom ve Gomora
C) Sinekli Bakkal
D) Yaban

6. Tam otuz yıl saatim işlemiş ben
durmuşum;
Gökyüzünden habersiz, uçurtma
uçmuşum...

Bu dizelerdeki hâkim duygu aşağıdakilerin hangisidir?

- A) Pişmanlık B) Yalnızlık
C) Umutsuzluk D) Öfke

7. Aşağıdaki şiir - şair eşleştirmelerinin hangisi yanlıştır?

- A) Bingöl Çobanları - Kemalettin Kamu
B) Hikâye - Cahit Külebi
C) Merdiven - Ahmet Haşim
D) Karadut - Yahya Kemal Beyatlı

8. Aşk ile var olmuş devr-i âlem
Sevgi armağanı verilen selam
Adını satıra yazınca kalem
Parmağım, tırnağım, elim titriyor

Bu şiir halk şiiri nazım türlerinden hangisine örnektir?

- A) Koçaklama B) Güzelleme
C) Taşlama D) Ağıt

9. "Anadolucu" ya da "memleketçi" edebiyata çıkardıkları ortak kitapla tepkilerini göstermişlerdir. Türk şiirini yeni ufuklara açmayı amaçlamışlar fakat biçim ve özde yenilik getiremedikleri için başarılı olamamışlardır. Topluluk üyelerinden yalnız Ziya Osman Saba topluluk dağıldıktan sonra da şiir yazmaya devam etmiştir.

Aşağıdaki sanatçılardan hangisi bu parçada tanıtılan topluluk içinde yer almaz?

- A) Yusuf Ziya Ortaç
B) Kenan Hulusi Koray
C) Cevdet Kudret Solok
D) Yaşar Nabi Nayır

10. Mehmet Rauf'un Eylül romanıyla ilk örneğini verdiği psikolojik roman, Cumhuriyet Dönemi'nde Peyami Safa, Samet Ağaoğlu gibi yazarların eserleriyle yeni örneklerle kavuştu.

Aşağıdaki eserlerin hangisi bu açıklamada adı geçen yazarların birine ait psikolojik bir romandır?

- A) Küçük Paşa
B) Dokuzuncu Hariciye Koğuşu
C) Karabibik
D) Memleket Hikâyeleri

11. Türk hikâye ve romanı 1930'lara kadar - - - - etkisinde gelişmiş, 1930'dan sonra - - - - yönelmiştir.

Bu cümlede boş bırakılan yerlere aşağıdakilerden hangileri sırasıyla getirilmelidir?

- A) Fecriati – postmodern bir anlayışa
B) Tanzimat – benmerkezci bir anlayışa
C) Millî Edebiyat – toplumcu gerçekçi çizgiye
D) Servetifünûn – modernist bir çizgiye

1. OTURUM

12. Bu romanda Sabahattin Ali; babası, anası eşkiya baskınında öldürülen bir gencin yaşamını anlatır. Roman toplumcu-gerçekçiliğin ilk başarılı örneklerindedir.

Bu parçada söz edilen roman aşağıdakilerden hangisidir?

- A) Eylül
B) Zehra
C) Mai ve Siyah
D) Kuyucaklı Yusuf

13. Bu vatan toprağın kara bağrında
Sıradağlar gibi duranlarındır
Bir tarih boyunca onun uğrunda
Kendini tarihe verenlerindir

Bu dördlük konusuna ve biçim özelliklerine göre incelendiğinde aşağıdaki şiir anlayışlarından hangisiyle kaleme alınmıştır?

- A) Millî Edebiyat zevk ve anlayışını sürdüren şiir
B) Öz şiir anlayışını sürdüren şiir
C) Garip hareketi
D) II. Yeni şiiri

14. Boğazından lıkr lıkr geçen
Şu suyun kıymetini bil
Nedir ki bu mavilik deme
Pencereden görebildiğin kadar
Göğün kıymetini bil

Bu dizeler biçim ve içerik özellikleri göz önünde bulundurulduğunda aşağıdaki şiir anlayışlarının hangisiyle kaleme alındığı söylenir?

- A) Garip (I. Yeni)
B) Öz şiir
C) Millî Edebiyat zevk ve anlayışını sürdüren şiir
D) Halk edebiyatı

15. Aşağıdakilerden hangisi Cumhuriyet Dönemi'nin önemli deneme yazarlarından biridir?

- A) Orhan Veli Kanık
B) Nazım Hikmet
C) Nurullah Ataç
D) Mehmet Âkif Ersoy

16. Cumhuriyet Dönemi halk şiirinin en önemli temsilcilerindedir. Yedi yaşında çiçek hastalığı nedeniyle gözlerini yitirdi. Kalan yetmiş iki yıllık hayatını kendi iç aydınlığını çoğaltarak geçirdi. Yerel sözcüklerle süslediği şiirlerini sade bir Türkçe ile geleneksel nazım biçimleri olan koşma, semai, destan şeklinde söyledi. "Dostlar Beni Hatırlasın" en önemli eseridir.

Bu parçada tanıtılan sanatçı aşağıdakilerden hangisidir?

- A) Âşık Feymani
B) Âşık Veysel
C) Mahsuni Şerif
D) Murat Çobanoğlu

17. Aşağıdakilerden hangisi 1980 sonrası şiir anlayışı için doğru bir bilgi değildir?

- A) Konu; yapı ve söyleyişten daha fazla öne çıkarılmıştır.
B) Türk şiirini yeniden değerlendirmeye çabaları vardır.
C) Büyük şehirdeki insanın yabancılaşması üzerinde sıkça durulmuştur.
D) Şairlerin yeni imgelerin peşinden koştuğu bir dönemdir.

18. Aşağıdaki sanatçılardan hangisi köye ve köy gerçeklerine yönelen, Anadolu'daki işçilerin, çiftçilerin sorunlardan bahseden toplumcu gerçekçi yazarlardan biri değildir?

- A) Kemal Tahir
B) Yaşar Kemal
C) Orhan Kemal
D) Yahya Kemal

19. Oğuz Atay'ın bu romanı ele aldığı konu, konuyu işleyiş tarzı ve iç monolog, bilinç akışı, alıntı gibi yeni anlatım tekniklerini kullanması bakımından dikkate değer. Atay bu romanında birtakım dinsel ve mitolojik öğelerden de yararlanarak yerleşik düzenin değer yargılarıyla, zevkleriyle, yaşama biçimleriyle uzlaşmayan, topluma yabancılaşmış insanların yaşamını anlatır.

Bu parçada sözü edilen Oğuz Atay romanı aşağıdakilerden hangisidir?

- A) Beş Şehir
B) Kara Kitap
C) Tutunamayanlar
D) Kısmet Büfesi

20. - İkinci Yeni'ye has dil ve söylem özelliklerini kullanarak İslam dinini esas alan konulara yöneldi.
- İslam mitolojisini kucaklayan sanatçının şiirinin sağlam bir metafizik zemini vardır.
- O, şiir dilindeki semboller aracılığıyla geleneği bugüne ve geleceğe taşır.

Özellikleri verilen II. Yeni sanatçısı aşağıdakilerden hangisidir?

- A) Ece Ayhan
B) Turgut Uyar
C) Sezai Karakoç
D) Cemal Süreya

(431) KİMYA – 1

1. I. Ateş
II. Su
III. Toprak

Yukarıda verilenlerden hangileri Aristo'nun belirttiği dört element içerisinde yer alır?

- A) Yalnız I
B) I ve II
C) II ve III
D) I, II ve III

1. OTURUM

2. Aşağıdakilerden hangisi simyacıların çalışmaları içerisinde yer alır?

- A) Protonun kütleini hesaplamak
- B) Değersiz madenleri altına çevirmeye çalışmak
- C) Elektronun yükünü hesaplamak
- D) Nötronun kütleini hesaplamak

3. • H₂O
• H
• O₂
• O

Yukarıda verilen maddelerden kaç tanesi bileşiktir?

- A) 1 B) 2 C) 3 D) 4

4. Brom elementinin sembolü aşağıdakilerin hangisinde doğru verilmiştir?

- A) Be B) B C) Br D) Ba

5. Kalsiyum sülfat bileşiğinin formülü aşağıdakilerin hangisinde doğru verilmiştir?

- A) CaSO₄ B) CaS
C) CS₂ D) K₂S

6. I. CH₄
II. C₂H₆
III. C₃H₈

Yukarıdakilerden hangileri hidrokarbon sınıfı bir bileşiktir?

- A) Yalnız I B) I ve II
C) II ve III D) I, II ve III

7. Fosfat kökü aşağıdakilerin hangisinde doğru verilmiştir?

- A) CO₃²⁻ B) PO₄³⁻
C) NO₃ D) P³⁻

8. Bir tane amonyum nitrat (NH₄NO₃) bileşiğinde toplam kaç tane atom bulunur?

- A) 1 B) 3 C) 9 D) 14

9. Aşağıda verilen bileşik isimlerinden hangisi kovalent bağlı bir bileşiğe aittir?

- A) Diazot hekzaflorür
B) Kalsiyum oksit
C) Sodyum klorür
D) Magnezyum nitür

10. Geleneksel adı amonyak olan bileşiğin formülü aşağıdakilerin hangisinde doğru verilmiştir?

- A) HNO₃ B) H₂SO₄
C) HCl D) NH₃

11. Periyodik sistemle ilgili;

- I. Yatay sıralara periyot denir.
II. Toplam 8 tane grup vardır.
III. Elementlerin artan proton sayılarına göre düzenlenmiştir.

Verilen bilgilerden hangileri yanlıştır?

- A) Yalnız I B) Yalnız II
C) I ve II D) II ve III

12. 7 gram demir (Fe) ve 4 gram kükürt (S) tozu birleşerek 11 gram FeS bileşiğini oluşturmaktadır.

Buna göre 44 gram FeS bileşiği oluşturmak için en az kaç gram demir (Fe) gerekir?

- A) 8 B) 14 C) 16 D) 28

13. Kükürt (S) ve Oksijen (O) elementlerinden oluşan bileşiklerdeki elementlerin kütleleri aşağıdaki tabloda verilmiştir.

	1.bileşik	2.bileşik
S kütlesi	3,2	3,2
O kütlesi	3,2	4,8

Buna göre bu iki bileşikteki oksijen elementlerinin katlı oranı aşağıdakilerden hangisidir?

- A) $\frac{2}{3}$ B) $\frac{3}{4}$ C) $\frac{1}{2}$ D) $\frac{3}{5}$

14. "Üzümlü kek" modeli olarak da bilinen atom modeli aşağıdakilerden hangisidir?

- A) Bohr atom modeli
B) Thomson atom modeli
C) Dalton atom modeli
D) Rutherford atom modeli

15. I. ${}^1_1\text{H} - {}^2_1\text{D}$
II. ${}^{12}_6\text{C} - {}^{13}_6\text{C}$
III. ${}^{40}_{19}\text{K} - {}^{40}_{20}\text{Ca}$

Verilen madde çiftlerinden hangileri birbirinin izotopudur?

- A) Yalnız II B) Yalnız III
C) I ve II D) I ve III


16. I. 2-8-2
II. 2-7
III. 2-8-8-1

Nötr haldeki katman elektron dağılımları verilen elementlerin atom numaralarının karşılaştırılması aşağıdakilerin hangisinde doğru verilmiştir?

- A) II > III > I B) II > I > III
C) I > II > III D) III > I > II

17. ${}^{23}_{11}\text{Na}$ atomu ile ilgili aşağıda verilen bilgilerden hangisi yanlıştır?

- A) Atom numarası 11'dir.
B) Nötron sayısı 23'tür.
C) Proton sayısı 11'dir.
D) Kütle numarası 23'tür.



Periyodik sistemde ok yönünde aşağıda verilen özelliklerden hangisi azalır?

- A) Atom numarası
B) Kütle numarası
C) İyonlaşma enerjisi
D) Atom yarıçapı

1. OTURUM

19. ^{11}X , ^{12}Y , ^{17}Z elementleri ile ilgili aşağıdaki bilgilerden hangisi yanlıştır?

- A) Atom çapı en büyük olan Z'dir.
 B) X, 1A grubunda yer alır.
 C) X ve Y metal, Z ametaldir.
 D) X, Y ve Z aynı periyotta yer alır.

20. Periyodik sistemde 4. Periyot 2A grubunda bulunan elementin atom numarası aşağıdakilerin hangisinde doğru verilmiştir?

- A) 18 B) 19 C) 20 D) 22

(432) KİMYA – 2

1. Aşağıda bazı kimyasal türlerin sembol ve formülleri verilmiştir.

Buna göre verilenlerden hangisi atom sınıfı bir kimyasal türdür?

- A) O B) O^{2-}
 C) O_2 D) H_2O

2. Aşağıdakilerin hangisi kimyasal türler arası zayıf etkileşimlerden biridir?

- A) İyonik bağ
 B) Kovalent bağ
 C) Dipol- dipol bağları
 D) Metalik bağ

3. I. ^3Li
 II. ^6C
 III. ^8O
 IV. ^{16}S

Verilen atomlardan aşağıdakilerin hangi ikisi arasında iyonik bağ oluşur?

- A) II ve III B) I ve III
 C) II ve IV D) III ve IV

4. Aşağıda verilen taneciklerin hangisinde atomlar arasında apolar kovalent bağ bulunur? (^1H , ^6C , ^8O , ^9F , ^{11}Na , ^{17}Cl)

- A) NaCl B) H_2O
 C) CCl_4 D) F_2

5.

	Molekül	Lewis gösterimi
I.	H_2	$\text{H}::\text{H}$
II.	O_2	$\text{O}::\text{O}$
III.	N_2	$:\text{N}:::\text{N}:$

Yukarıda bazı moleküllere ait verilen Lewis gösterimlerinden hangileri doğrudur? (^1H , ^7N , ^8O)

- A) Yalnız II B) I ve II
 C) I ve III D) II ve III

6. CH_4 , C_2H_6 , C_3H_8 gibi yapısında sadece C ve H elementleri içeren organik bileşikler apolar yapıli moleküllerden oluşur.

Buna göre aynı şartlar altında bulunan;

- I. CH_4
 II. C_2H_6
 III. C_3H_8

moleküllerinin kaynama noktalarının karşılaştırılması aşağıdakilerden hangisi gibi olur?

- A) I > II > III B) I > III > II
 C) II > I > III D) III > II > I

7. H_2O bileşiğinin kendi molekülleri arasında görülen baskın etkileşim türü aşağıdakilerin hangisinde doğru verilmiştir? (^1H , ^8O)

- A) London kuvvetleri
 B) Hidrojen bağları
 C) İyon - dipol etkileşimleri
 D) Dipol - dipol etkileşimleri

8. • Elmanın çürümesi
 • Bitkilerin fotosentez yapması
 • Demirin paslanması
 • Ekmeğin küflenmesi

Yukarıda verilen olaylardan kaç tanesi kimyasal değişimdir?

- A) 4 B) 3 C) 2 D) 1

9. I. $\text{H}_2(\text{g}) + \text{Cl}_2(\text{g}) \rightarrow 2\text{HCl}(\text{g})$
 II. $\text{N}_2(\text{g}) + 3\text{H}_2(\text{g}) \rightarrow 2\text{NH}_3(\text{g})$
 III. $2\text{KClO}_3(\text{k}) \rightarrow 2\text{KCl}(\text{k}) + 3\text{O}_2(\text{g})$

Yukarıdaki tepkimelerden hangileri oluşum (sentez) tepkimesidir?

- A) Yalnız I B) I ve II
 C) II ve III D) I, II ve III

10. Aşağıdakilerden hangisi yanma tepkimesidir?

- A) $\text{HCl} + \text{NaOH} \rightarrow \text{NaCl} + \text{H}_2\text{O}$
 B) $2\text{BaO}_2 \rightarrow 2\text{BaO} + \text{O}_2$
 C) $\text{CH}_4 + 2\text{O}_2 \rightarrow \text{CO}_2 + 2\text{H}_2\text{O}$
 D) $\text{H}_2 + \text{Cl}_2 \rightarrow 2\text{HCl}$

11. I. 1 litre = 1000 mL
 II. 1 litre = 1000 cm^3
 III. 1 litre = 1 dm^3

Yukarıda verilen hacim ile ilgili birim dönüşümlerinden hangileri doğrudur?

- A) Yalnız I B) I ve II
 C) II ve III D) I, II ve III

12. Bir gazın kapalı bir kaptaki yapmış olduğu basınç 1520 mmHg olarak ölçülmüştür.

Buna göre bu gazın basıncı kaç atm'dir?

- A) 0,2 B) 2 C) 20 D) 200

13. 4,4 gram CO_2 gazı kaç moldür? ($\text{C} = 12 \text{ g/mol}$, $\text{O} = 16 \text{ g/mol}$)

- A) 10 B) 1
 C) 0,1 D) 0,01

14. 2 mol CaCO_3 bileşiğinde kaç tane C atomu vardır? (Avogadro sayısı = $6 \cdot 10^{23}$ alınız)

- A) $6 \cdot 10^{23}$ B) $12 \cdot 10^{23}$
 C) $18 \cdot 10^{23}$ D) $36 \cdot 10^{23}$

1. OTURUM

15. Sabit sıcaklıktaki bir gazın 2 atm basınçta hacmi 36 litre olarak ölçülüyor.

Bu gazın miktarı ve sıcaklığı değiştirilmeden basıncı 4 atm yapılırsa, hacmi kaç litre olur?

- A) 9 B) 18 C) 36 D) 72

16. Sabit basınçlı bir kaptaki 27°C'ta bir miktar gazın hacmi 200 mL'dir. Gazın sıcaklığı t°C'a çıkarıldığında hacmi 600 mL oluyor.

Buna göre gazın son sıcaklığı kaç °C'tur?

- A) 127 B) 327
C) 627 D) 900

17. Gazlarla ilgili aşağıdaki açıklamalardan hangisi **yanlıştır**?

- A) Gerçek gazlar yüksek sıcaklık ve düşük basınçta ideallığe yaklaşır.
B) Gazların davranışlarını açıklamak için geliştirilen teori "kinetik teori"dir.
C) Gerçek gazlar sıkıştırıldıkça ideallikten sapar.
D) Hacmi değişmeyen belli bir miktar gazın sıcaklığı artırıldığında gaz moleküllerinin kinetik enerjisi azalır.

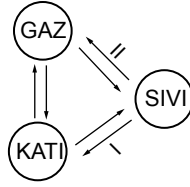
18. Aşağıda bazı sıvılar ve viskozite değerleri verilmiştir.

Sıvı	Viskozite (mN/m ²)·s
Su	0,894
Gliserin	1200
Zeytinyağı	81
Civa	1,526

Buna göre aynı şartlar altındaki bu sıvılardan hangisi daha hızlı akar?

- A) Gliserin B) Su
C) Zeytinyağı D) Civa

- 19.



Yukarıdaki şekilde I ve II numaralı hal değişim olayları aşağıdakilerin hangisinde doğru verilmiştir?

- | I | II |
|----------|-------------|
| A) Donma | Buharlaşıma |
| B) Erime | Yoğuşma |
| C) Erime | Buharlaşıma |
| D) Donma | Yoğuşma |

20. Aşağıdakilerden hangisi kristal katı türlerinden biri **değildir**?

- A) İyonik katı
B) Moleküler katı
C) Kovalent katı
D) Amorf katı

(441) BİYOLOJİ – 1

1. I. Bilimde tek bir bilimsel metot vardır.
II. Bilim insanı tarafından sunulan bilgiler sorgulanabilir olmalıdır.
III. Bilim mutlak doğrular içerdiği için değişken yapıya sahip değildir.

Bilim ve bilim insanı için verilenlerden hangileri doğrudur?

- A) Yalnız I B) Yalnız II
C) I ve III D) II ve III

2. I. Bu arkadaşımız çok kiloludur.
II. Mehmet'in boyu 180 cm'dir.
III. Duvarın rengi yeşildir.
IV. Poşetteki domates üç kilodur.

Verilenler nitel ve nicel gözlem sonuçları şeklinde sınıflandırılırsa aşağıdakilerden hangisi doğru olur?

- | Nitel Gözlem | Nicel Gözlem |
|--------------|---------------|
| A) I ve III | II ve IV |
| B) I ve IV | II ve III |
| C) Yalnız I | II, III ve IV |
| D) Yalnız II | I, III ve IV |

3. **Bozulmuş ekosistemleri doğal koşullarına geri döndürmeye yönelik çalışmalar yapan biyoloji alt bilim dalı aşağıdakilerden hangisidir?**

- A) Deniz Biyolojisi
B) Kriminal Biyoloji
C) Restorasyon Ekolojisi
D) Moleküler Biyoloji

4. I. Herbivor
II. Karnivor
III. Omnivor

Heterotrof canlılar besin çeşidine göre yukarıda verildiği gibi ayrılır.

Buna göre I, II ve III uygun örneklerle eşleştirilirse hangisi **yanlış olur?**

- | I | II | III |
|---------|--------|----------|
| A) İnek | Kurt | İnsan |
| B) Keçi | Aslan | Evsıçanı |
| C) Fil | Kaplan | Ayı |
| D) Kedi | Köpek | Koyun |

5. **Eşeyli üremede gözlenen olaylar ile ilgili verilenlerden hangisi **yanlıştır**?**

- A) Mayoz bölünme yoluyla gametler oluşur.
B) Gametlerin birleşmesine döllenme denir.
C) Tür içinde yeni gen kombinasyonları oluşur.
D) Oluşan canlılar birbirleriyle aynı kalıtsal yapıda olur.

6. **Mineraller için,**

- I. Enerji kaynağı olarak kullanılmazlar.
II. İnsanda en fazla bulunan besindir.
III. Bitkiler tarafından sentezlenir.

verilenlerden hangileri doğrudur?

- A) Yalnız I B) Yalnız II
C) I ve III D) II ve III

7. **Aşağıda verilenlerden hangisinin pH'sı 7-14 aralığında **değildir**?**

- A) Deniz suyu B) Soda
C) Mide özsuyu D) Amonyak

1. OTURUM

8. I. Fruktoz
II. Riboz
III. Glikoz
IV. Galaktoz

Verilen monosakkarit çeşitleri 5 C (karbon)'lu ve 6 C'lu olacak şekilde sınıflanırsa aşağıdaki-lerden hangisi doğru olur?

- | 5 C'lu | 6 C'lu |
|--------------|---------------|
| A) Yalnız I | II, III ve IV |
| B) Yalnız II | I, III ve IV |
| C) I ve II | III ve IV |
| D) I ve III | II ve IV |

9. • Çok sayıda glikozun beta glikozit bağlarıyla bağlanması sonucu oluşur.
• Otçul hayvanların bağırsaklarında yaşayan mikroorganizmalarca sindirilir.
• Zincirler halinde birleşerek bitki hücre çeperini oluşturur.

Özellikleri verilen polisakkarit çeşidi aşağıdakilerden hangisidir?

- | | |
|------------|-------------|
| A) Selüloz | B) Nişasta |
| C) Kitin | D) Glikojen |

10. Yağlarla ilgili olarak seçeneklerde verilenlerden hangisi yanlıştır?

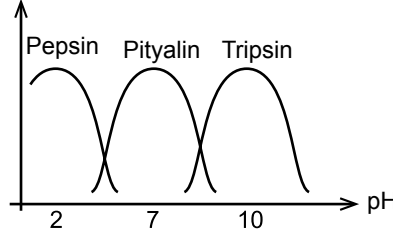
- A) Yapısındaki karbon ve hidrojen oranı fazla, oksijen oranı düşüktür.
B) Parçalanması zor olduğundan ikinci dereceden enerji verici olarak kullanılır.
C) Tek tip yağ asiti ve çok çeşitte olabilen gliserolün birleşmesiyle oluşur.
D) Deri altında depolandığında ısı yalıtımı ve mekanik etkilere karşı koruma özelliği vardır.

11. • Gece körlüğü
• Kısırlık
• Kanın pıhtılaşmaması

Yukarıda verilen hastalıklar bazı vitaminlerin eksik alınması durumunda ortaya çıktığına göre bu hastalıkların ortaya çıkmasında seçeneklerde verilen vitaminlerden hangisinin eksik alınmasının etkisi yoktur?

- | | |
|---------------|---------------|
| A) A vitamini | B) K vitamini |
| C) C vitamini | D) E vitamini |

12. Tepkime hızı



Yukarıda verilen tepkime hızı-pH değişimi grafiğine göre,

- I. Üç enzimin ortak çalıştığı bir pH değeri yoktur.
II. Pityalin nötr ortamlarda etkilidir.
III. Tripsinin yapısı pepsinin çalıştığı ortamda bozulabilir.

Çıkarımlarından hangileri yapılabılır?

- | | |
|---------------|-----------------|
| A) Yalnız I | B) Yalnız II |
| C) Yalnız III | D) I, II ve III |

13. 4000 nükleotit içeren bir DNA molekülünün hidrolizi için gerekli olan su miktarı aşağıdakilerden hangisinde verilmiştir?

- | | |
|----------|----------|
| A) 12000 | B) 11998 |
| C) 400 | D) 398 |

14. DNA için verilen aşağıdaki özelliklerden hangisi RNA için de geçerlidir?

- A) Fosfat sayısı kadar nükleotit taşıma
B) Karşılıklı iki zincirden oluşma
C) Deoksiriboz şekeri taşıma
D) Timin bazı bulundurma

15. ATP'nin yapısında bulunan;

- I. Glikozit bağı
II. Ester bağı
III. Yüksek enerjili bağlar

buldukları,

- a. Baz ile riboz şekeri arasında
b. Riboz şekeri ile fosfat arasında
c. Fosfatlar arasında

bölgeleri ile eşleştirilirse aşağıdakilerden hangisi doğru olur?

- | | I | II | III |
|----|---|----|-----|
| A) | a | b | c |
| B) | a | c | b |
| C) | b | c | a |
| D) | b | a | c |

16. Hücre teorisi ile ilgili aşağıda verilenlerden hangisi yanlıştır?

- A) Bütün organizmaların temel yapı ve görev birimi hücredir.
B) Bütün organizmalar çok sayıda hücreden meydana gelir.
C) Canlılardaki hayatsal olaylar hücre içinde gerçekleşir.
D) Her hücre kendinden önceki hücrenin bölünmesi ile meydana gelir.

17. • Zarsız bir organeldir.

- Kompleks yapıya sahip bitki hücrelerinde bulunmaz.
• Bölünme başladığında çekirdeğin iki karşıt bölgesine giderek mikrotübülleri oluşturur.

Özellikleri verilen organel aşağıdakilerden hangisidir?

- | | |
|---------------|------------|
| A) Sentrozom | B) Ribozom |
| C) Mitokondri | D) Lizozom |

- 18.

Özellik	Hayvan hücresi	Bitki hücresi
Boğumlanma ile sitoplazma bölünmesi	+	I
Hücre duvarı ile hücrelerin birbirine bağlanması	II	+
Polisakkarit depolama	+	III

(+; özelliğin olduğunu, -; özelliğin olmadığını belirtir.)

Tabloya göre numaralı yerlerin işaretleri sırasıyla aşağıdakilerden hangisindeki gibi olmalıdır?

- A) + , - , +
B) - , + , -
C) - , - , +
D) + , - , -

19. Difüzyonla ilgili olarak aşağıdaki ifadelerden hangisi yanlıştır?

- A) Sıcaklık artarsa difüzyon yavaşlar.
B) Molekül büyüklüğü artarsa difüzyon yavaşlar.
C) Yoğunluk farkı artarsa difüzyon hızlanır.
D) Por sayısı artarsa difüzyon hızlanır.

1. OTURUM

20. Hücre zarı üzerinden küçük boyutlu maddeler aşağıda verilen yöntemlerden hangisi ile geçemez?

- A) Difüzyon
- B) Endositoz
- C) Ozmoz
- D) Kolaylaştırılmış difüzyon

(442) BİYOLOJİ – 2

1. I. Kartalın kanadı
II. Kedinin ön ayakları
III. Kelebeğin kanadı
IV. Fokun ön yüzgeci

Yukarıda verilen farklı canlılara ait organlar analog organlar (a) ve homolog organlar (b) şeklinde sınıflanırsa aşağıdakilerden hangisi doğru olur?

- | | a | b |
|----|-----------|-----------|
| A) | I ve II | III ve IV |
| B) | I ve III | II ve IV |
| C) | II ve III | I ve IV |
| D) | II ve IV | I ve III |

2. Canlıların filogenetik (doğal) sınıflandırması yapılırken aşağıdakilerden hangisine dikkat edilmez?

- A) Yaşam ortamı benzerliği
- B) Biyokimyasal özellikleri
- C) Fizyolojik benzerlikleri
- D) Orijin benzerlikleri

3. Sınıflandırma basamakları arasında alemde türe doğru gidildikçe,

- I. birey sayısı
- II. ortak özellik sayısı
- III. çeşitlilik

verilenlerden hangileri artış gösterir?

- A) Yalnız I
- B) Yalnız II
- C) I ve III
- D) II ve III

4. Aşağıda verilen canlı alemlerinden hangisi Eukarya grubu içerisinde değerlendirilmez?

- A) Protista
- B) Plantae
- C) Animalia
- D) Archaea

5. Yuvarlak şekilli bakteriler,

- a. tek olanlar
 - b. koloni oluşturan, ikili gruplar şeklinde olanlar
 - c. koloni oluşturan, uzun zincir oluşturmuş halde olanlar
 - d. koloni oluşturan, üzüm salkımı şeklinde olanlar
- şeklinde sınıflanır.

Buna göre aşağıda verilen eşleştirmelerden hangisi doğrudur?

- A) a, staphylococcus
- B) b, diplococcus
- C) c, coccus
- D) d, streptococcus

6. • Bazı türler tuzluluğa sadece dayanırken bazıları büyümek için deniz suyundan 10 kat daha tuzlu olan ortamlara gereksinim duyar.
• Kolonileri mor-kırmızı renkte görünür.

Yukarıda bazı özellikleri verilen arke grubu seçeneklerden hangisinde belirtilmiştir?

- A) Metanojenler
- B) Halofiller
- C) Termofiller
- D) Psikrofiller

7. Trikosist adı verilen zehirli ipliksi zıpkınlar sayesinde düşmanlarına karşı savunma yapan, aynı zamanda bu yapıları avlanmada kullanan protista grubu aşağıdakilerden hangisidir?

- A) Silliler
- B) Kamçılılar
- C) Sporlular
- D) Kök ayaklılar

8. Mantarlar aleminin üyeleri,

- I. glikojen depolama
- II. kitin hücre çeperi taşıma
- III. pasif hareket etme

özelliklerinin hangilerinden dolayı hayvanlar aleminin üyelerine benzer?

- A) Yalnız I
- B) Yalnız II
- C) I ve II
- D) II ve III

9. I. glikoz
II. antibiyotik
III. mikotoksin

Verilen maddelerden hangileri küf mantarlarınca üretilebilir?

- A) Yalnız I
- B) Yalnız II
- C) I ve III
- D) II ve III

10. Aşağıda verilen özelliklerden hangisi bitkiler aleminin açık tohumlular grubuna ait değildir?

- A) Yaprakları çoğunlukla iğne şeklindedir.
- B) Üreme yapıları kozalak şeklindedir.
- C) Meyve ve tohum taslakları vardır.
- D) Endosperm dölllenme olmadan gelişir.

11. Omurgasız hayvanların eklem bacaklı grubunun içerisinde değerlendirilen böceklerle ilgili olarak;

- I. Vücutları baş, gövde ve karın olmak üzere üç bölüme ayrılır.
- II. İki çift ayak, üç çift kanat taşırlar.
- III. Trake solunumu yaparlar.

Verilenlerden hangileri doğrudur?

- A) Yalnız I
- B) I ve II
- C) I ve III
- D) II ve III

12. Aşağıda verilen omurgalı hayvan gruplarından hangisi soğukkanlı olup kış uykusuna yatar?

- A) Penguen
- B) Ayı
- C) Kemikli balık
- D) Kurbağa

1. OTURUM

13. Memeli canlılarla ilgili,

- I. Olgun alyuvarları çekirdeksizdir.
- II. Akciğerlerinde alveol vardır.
- III. Yavrularını doğurur ve sütle beslerler.

Özelliklerinden hangileri omurgalı hayvanların diğer sınıflarında görülmez?

- A) I ve II B) I ve III
C) II ve III D) I, II ve III

14. Ülkemizde biyoçeşitliliğin ortaya çıkmasında aşağıdakilerden hangisinin etkisi yoktur?

- A) Yıllık ortalama sıcaklığın 20-30 °C arasında değişmesi
B) Güneyde ve kuzeyde kıyıya paralel uzanan sıra dağların olması
C) Ortalama yıllık yağışın bölgelere göre farklılık göstermesi
D) Bölgeler arasında yükselti farklılıklarının olması

15. İnsan etkisinden kaynaklanan bazı uygulamalar ile biyolojik çeşitliliğin olumsuz yönde etkilenmesine aşağıdakilerden hangisi örnek gösterilmez?

- A) Düzensiz kentleşme
B) Kontrolsüz avcılık
C) Depremler
D) Aşırı otlatma

16. Aşağıda verilenlerden hangisi atmosferde bulunan kirleticilere örnek değildir?

- A) Kükürt dioksit
B) Karbondioksit
C) Karbonmonoksit
D) Azot dioksit

17. Orman yangınlarının çıkış nedenleri arasında aşağıdakilerden hangisi en fazla yüzdeye sahiptir?

- A) İnsan kaynaklı
B) Yıldırım
C) Enerji nakil hattı
D) Trafik

18. Antimikrobiyal özellikleri ve gıdaların doğal renginin korunması amacıyla sosis, salam ve sucuk gibi ürünlerde kullanılan katkı maddesi aşağıdakilerden hangisidir?

- A) Olestra
B) Melamin
C) Sodyum nitrit ve nitrat
D) Benzoik asit

19. Aşağıda verilen kimyasallardan hangisi doğal toprak kirliliğine neden olabilir?

- A) Pestisid B) Asbest
C) Herbisit D) İnsektisit

20. I. Düşük kalorili kömür kullanma II. Kükürt oranı yüksek kömür kullanımı III. Yanlış yakma tekniklerinin uygulanması

Verilenlerden hangileri ısınmadan kaynaklanan hava kirliliğine nedenlerindendir?

- A) Yalnız III B) I ve II
C) II ve III D) I, II ve III

(452) Ç. TÜRK ve DÜNYA TAR.- 2

1. "30 Eylül 1971 tarihinde iki ülke arasında yanlışlıkla bir nükleer savaş çıkmasını önleyecek tedbirleri saptayan iki taraflı "Kaza Önleme Antlaşması" imzalanmıştır."

Verilen cümlede altı çizili olan "iki ülke" ifadesinden kastedilen ülkeler, aşağıdakilerden hangisidir?

- A) ABD - Çin
B) ABD - SSCB
C) ABD - Japonya
D) SSCB - Almanya

2. Küba Buhranı sırasında Türkiye'ye "Jüpiter" füzelerini, aşağıdaki ülkelerden hangisi yerleştirmiştir?

- A) Çin
B) Almanya
C) Sovyet Rusya
D) Amerika Birleşik Devletleri

3. Avrupa Güvenlik ve İş Birliği Teşkilatının kısaltması aşağıdakilerden hangisidir?

- A) AGİK B) OPEC
C) NATO D) ASALA

4. 1960 - 1980 yılları arası Türk - Yunan ilişkilerini ikiye ayırarak incelemek istesek aşağıdaki hangi yılı milat olarak alabiliriz?

- A) 1964 B) 1971
C) 1974 D) 1979

5. Aşağıdaki antlaşmalardan hangisiyle "Kuzey Vietnam" ve "Güney Vietnam" iki bağımsız devlet olmuştur?

- A) Roma Antlaşması
B) Cenevre Antlaşması
C) Camp David Antlaşması
D) Dayton Barış Antlaşması

6. ABD Başkanı Jimmy Carter'ın, 28 Aralık 1979'da yaptığı konuşmada "milletlerarası hukuka aykırı" ve "kaba bir müdahale" diye tepki gösterdiği olay aşağıdakilerden hangisidir?

- A) Küba Buhranı
B) Keşmir Meselesi
C) Kıbrıs Barış Harekâtı
D) Afganistan'ın SSCB tarafından işgali

7. Mısır'ın aşağıdakilerden hangisini millileştirmesi 1956 Mısır - İsrail Savaşı'nın ana nedenini oluşturur?

- A) Golan tepeleri
B) Sina Yarımadası
C) Süveyş Kanalı
D) Akabe Körfezi

8. Önemli bir su yolu olan Şattülrap, aşağıdaki hangi savaşın çıkış nedenlerinin ana sebebidir?

- A) Altı Gün Savaşı'nın
B) İran - Irak Savaşı'nın
C) Yom Kippur Savaşı'nın
D) Birinci Körfez Savaşı'nın

1. OTURUM

9. Devekuşu Kabare Tiyatrosu aşağıda birlikte verilen sanatçılardan hangileri tarafından kurulmuştur?

- A) Zeki Alasya – Metin Akpınar
B) Kemal Sunal – Şener Şen
C) Ferdi Tayfur – Ali Sunal
D) Münir Özkul – Adile Naşit

10. “12 Eylül Dönemi” olarak Türk siyasi tarihine geçen zaman diliminde aşağıdaki anayasalardan hangisi yürürlükten kaldırılmıştır?

- A) 1982 B) 1961
C) 1924 D) 1921

11. Aliye İzzetbegoğlu, aşağıdaki hangi ülkenin cumhurbaşkanlığı görevinde bulunmuştur?

- A) Bosna – Hersek
B) Azerbaycan
C) Arnavutluk
D) Kosova

12. Yugoslavya'nın parçalanmasıyla ortaya çıkan devletlerden hangileri günümüzde Avrupa Birliği (AB) üyesi olmuştur?

- A) Kosova - Bosna – Hersek
B) Sırbistan - Makedonya
C) Slovenya - Hırvatistan
D) Karadağ - Kosova

13. Türk ordusu 1992 - 2006 yılları arasında dünya barışı için aşağıdaki ülkelerin hangisinde görev almamıştır?

- A) Afganistan B) Vietnam
C) Lübnan D) Kosova

14. Azerbaycan, Kazakistan ve Kırgızistan'ın bağımsızlığını tanıyan ilk ülke aşağıdakilerden hangisidir?

- A) ABD B) İngiltere
C) Türkiye D) Sovyet Rusya

15. Türkiye’de aşağıdaki yılların hangisinde ekonomik kriz yaşanmamıştır?

- A) 2008 B) 2005
C) 1998 D) 1997

16. Birleşmiş Milletler (BM) 1974 yılında aşağıdaki örgütlerden hangisini 4,5 milyon Filistinlinin temsilcisi olarak tanımıştır?

- A) FKÖ B) Hamas
C) EOKA D) ASALA

17. “Endüstriyel genişlemeye ve kitle iletişim araçlarının yaygınlaşmasına paralel olarak siyasi, kültürel ve ekonomik düzeydeki çok yönlü toplumsal ilişkilerin dünya çapında yaygınlaşmasıdır.”

Verilen tanım aşağıdaki kavramlardan hangisine aittir?

- A) Glastnost B) Prestroika
C) Proletarya D) Küreselleşme

18. 11 Eylül 2001’de New York’taki Dünya Ticaret Merkezine yapılan uçaklı terör saldırısından sonra ABD, bu saldırıdan sorumlu tuttuğu aşağıdaki hangi ülkeye hava saldırısı düzenlemiştir?

- A) Irak B) İran
C) Suriye D) Afganistan

19. Aşağıdaki devletlerden hangisinin Hazar Denizi’ne kıyısı yoktur?

- A) Kazakistan B) Türkmenistan
C) Özbekistan D) Azerbaycan

20. “Bir metrenin milyarda biri” ölçüsündeki uzunluk aşağıdakilerden hangisiyle ifade edilir?

- A) Milimetre B) Nanometre
C) Mikrometre D) Desimetre

(465) TEMEL DİNİ BİL. – 1

1. Kelime olarak itaat, hüküm, örf, âdet, ceza ve mükâfat gibi anlamlara gelen kavram aşağıdakilerden hangisidir?

- A) Din B) İman
C) İbadet D) Amel

2. Kast sistemi aşağıdaki dinlerin hangisinde vardır?

- A) Caynizm B) Budizm
C) Sihizm D) Hinduizm

3. Aşağıdaki dinlerden hangisi Nasranilik olarak da anılır?

- A) Musevilik B) Hristiyanlık
C) Budizm D) Sihizm

4. Kur'an-ı Kerim’de “... onu ne öldürdüler ne de astılar... Allah onu kendi katına yükseltti...”
(Nisa Suresi, 157 ve 158. ayetler)

Bu ayetlerde konu edilen peygamber aşağıdakilerden hangisidir?

- A) Hz. İbrahim
B) Hz. Musa
C) Hz. İsa
D) Hz. Davut

5. I. Daha sağlıklı büyümesi
II. Saf bir dil öğrenmesi
III. Ahlaklı yetişmesi
IV. Putlardan uzak tutulması

Hz. Muhammed’in süt anneye verilmesinin sebepleri hangi seçenekte bir arada verilmiştir?

- A) I ve II B) I ve III
C) III ve IV D) II ve IV

6. Amentü esasları aşağıdakilerden hangisini ifade eder?

- A) İslam’ın şartlarını
B) Namazın farzlarını
C) Ahlak esaslarını
D) İmanın şartlarını

1. OTURUM

7. "Onlar bilmiyorlar mı ki, gizlediklerini de açıkladıklarını da Allah bilir."

(Bakara Suresi, 77. ayet)

Bu ayette Allah'ın sıfatlarından hangisinden bahsedilmektedir?

- A) Hayat B) İlim
C) Basar D) İrade

8. "Melekler ve Ruh (Cebrail), oraya miktarı (dünya senesi ile) elli bin yıl olan bir günde yükselip çıkar."

(Mearic Suresi, 4. ayet)

Verilen ayette meleklerin hangi özelliğine işaret edilmektedir?

- A) Nurdan yaratıldıklarına
B) Cinsiyetlerinin olmadığına
C) Kanatlı olduklarına
D) Hızlı hareket ettiklerine

9. Hastalıkta ve yolculukta ibadetleri yerine getirmede Müslümanlara bazı kolaylıklar tanınmıştır. Örneğin yolcuya cuma namazı ve oruç farz değildir.

Aşağıdaki ayetlerden hangisi bu konuya örnek verilebilir?

- A) "... Namaz, insanı kötülüklerden ve hayasızlıktan alıkoyar." (Ankebut Suresi, 45. ayet)
B) "...Allah kimseye taşıyamayacağı yükü yüklemesin..." (Bakara Suresi, 286. ayet)
C) "Ey Resulum... sen dini Allah'a has kılarak kulluk et." (Zümer Suresi, 2. ayet)
D) "Namazı önemsemeyen, gösteriş yapmak için kılanlara yazıklar olsun." (Maun Suresi, 4 - 6. ayetler)

10. • Sözlükte; temizlik, bereket, çoğalmak anlamına gelir.
• İslam'ın beş temel esasından biridir.
• Medine döneminde farz kılınmıştır.

Hakkında bilgi verilen ibadet aşağıdakilerden hangisidir?

- A) Namaz B) Oruç
C) Hac D) Zekat

11. Aşağıdakilerden hangisi dini oluşturan temel unsurlardan biri değildir?

- A) Ekonomi B) İbadet
C) Ahlak D) İman

12. Vahye dayalı dinler aşağıdaki inanma biçimlerinin hangisinin içerisinde değerlendirilir?

- A) Gnostisizm
B) Politeizm
C) Monoteizm
D) Agnostisizm

13. Aşağıdakilerden hangisi dinin insana sağladığı faydalardan biri değildir?

- A) Kendisinin korunduğunu bilir.
B) Davranışları güzelleştirir.
C) Maddi ihtiyaçları karşılar.
D) Anlam arayışına cevap verir.

14. Kabile dinleri ile ilgili aşağıda verilenlerden hangisi yanlıştır?

- A) Büyücülük yaygındır.
B) Kutsal kitapları vardır.
C) Kurucuları belli değildir.
D) Belli bir bölgeye aittirler.

15. Hz. Muhammed (sav.)'in "İman nedir?" sorusuna verdiği cevapta aşağıdakilerden hangisi yer almaz?

- A) Namaz kılmak
B) Ahirete inanmak
C) Kitaplara inanmak
D) Meleklerle inanmak

16. Aşağıdakilerden hangisi Allah'ın subuti sıfatlarından biridir?

- A) İrade B) Beka
C) Kıdem D) Vücut

17. Allah rızası için yapılan her türlü iyi, güzel ve faydalı olan davranış anlamına gelen kavram aşağıdakilerden hangisidir?

- A) İhsan B) İstişare
C) Salih Amel D) Tevekkül

18. Aşağıdakilerden hangisi oruç ibadeti ile ilgili bir kavram değildir?

- A) İmsak B) Nisap
C) Fidye D) İftar

19. Zekat ile ilgili aşağıdakilerden hangisi yanlıştır?

- A) Zengin Müslümanlara farzdır.
B) Amca, dayı, teyze ve halaya zekat verilemez.
C) Ticaret mallarının zekat oranı 1/40'tır.
D) Zekât vermek için sağlıklı olmak gerekmez.

20. Kâbe'nin etrafında yedi defa dönmeye ne ad verilir?

- A) Şavt B) Vakfe
C) Mikat D) Tavaf

(466) TEMEL DİNİ BİL. – 2

1. Aşağıdakilerden hangisi Kur'an'ın eğitici özelliklerinden biri değildir?

- A) İyiyi yönlendirir ve kötülüklerden sakındırır.
B) Taassup sahibi insan modeli oluşturur.
C) Bilgiyi ve öğrenmeyi teşvik eder.
D) Akıllı kullanmayı öğretir.

2. Peygamberlerin asıl gönderiliş gayeleri aşağıdakilerden hangisidir?

- A) Allah'ın dinini tebliğ etmek
B) İnsanlar arasındaki ayrımı gidermek
C) Tüm insanların kardeş olduğunu duyurmak
D) Dünya hayatının geçici olduğunu bildirmek

3. Hz. İdris (as.)'e kaç sahife verilmiştir?

- A) 10 B) 20
C) 30 D) 50

1. OTURUM

4. Kur'an-ı Kerim'e göre en büyük zulüm aşağıdakilerden hangisidir?

- A) Fitneyi toplum içinde yaymak
- B) Yetimlerin mallarına el koymak
- C) Farz ibadetleri yerine getirmekten kaçınmak
- D) Allah'ın varlığını ve birliğini inkâr etmek

5. Kur'an-ı Kerim ile ilgili aşağıda verilen bilgilerden hangisi yanlıştır?

- A) İlk ayetleri 610 yılı Ramazan ayında Hira mağarasında nazil olmuştur.
- B) Mekki ayetler; genellikle sosyal ve içtimai konuları içerir.
- C) İnsanlara her zaman iyi ve güzel giden yolu gösterir.
- D) Günümüze kadar değişmeden ulaşan tek ilahi kitaptır.

6. Aşağıdaki davranışlardan hangisi İslam ahlâkiyla bağdaşmaz?

- A) Sınavlardaki başarısından dolayı kibirlenmek
- B) Allah'ın verdiği nimetleri O'nun yolunda harcamak
- C) Zulümden kaçan insanlara kucak açmak
- D) Komşu haklarına riayet etmek

7. Aşağıdakilerden hangisi vatana karşı görevlerimizden biri değildir?

- A) Doğal kaynakları doğru kullanmak
- B) Ülkeyi düşmana karşı savunmak
- C) Beden sağlığına dikkat etmek
- D) Kamu mallarını korumak

8. Aşağıdakilerden hangisi ilk Müslümanlardan biridir?

- A) Selmân-ı Fârisî
- B) Hz. Osman
- C) Hz. Fatıma
- D) Hz. Ebu Bekir

9. Hz. Peygamber'in aşağıdaki davranışlarından hangisi hüküm olarak diğerlerinden farklıdır?

- A) Sakal bırakması
- B) Güzel koku sürmesi
- C) Dişlerini temiz tutması
- D) Yalan sözlerden kaçınması

10. "...Kur'an'ı güzel bir şekilde tane tane oku."
(Müzzemmil suresi, 4. ayet)

Verilen ayetin işaret ettiği kavram aşağıdakilerden hangisidir?

- A) Hatim
- B) Aşır
- C) Tertil
- D) Tertip

11. Kur'an'ı Kerim'in genellikle on ayetten oluşan, özel işaretlerle ayrılmış ve çoğunlukla namazların sonunda okunan kısımlarına ne denir?

- A) Aşır
- B) Hatim
- C) Tertil
- D) Mukabele

12. Başkaları hakkında önyargılı bir şekilde olumsuz tahminlerde bulunmaktır.

Tanımı yapılan kavram aşağıdakilerden hangisidir?

- A) Yalan
- B) Sui zan
- C) Gıybet
- D) İftira

13. Selamın yaygınlaştığı bir toplumda aşağıdakilerden hangisinin artması beklenmez?

- A) Sevgi ve saygı
- B) Güven ve dostluk
- C) Barış ve hoşgörü
- D) Küskünlük ve dargınlık

14. Aşağıdakilerden hangisi Kur'an'ın ana konularından biri değildir?

- A) İnanç
- B) Ahlak
- C) Ticaret
- D) İbadet

15. "Ben, Allah'tan, hepinizden daha çok çekinir ve sakınıyorum. Lakin ben, bazen nafile oruç tutarım bazen de tutmam, gecenin üçte birinde namaz kılarım, üçte birinde uyurum."

Bu hadiste aşağıdakilerden hangisi vurgulanmıştır?

- A) Peygambere olan ihtiyaç
- B) İbadetlerde dengeli olma
- C) İbadetlerde devamlılık
- D) İman amel ilişkisi

16. Ahlakın konusu aşağıdakilerden hangisidir?

- A) İnsan davranışları
- B) Yaşayan dinler
- C) İman esasları
- D) Örf ve adetler

17. Aşağıdakilerden hangisi Medine'ye hicretten önce vefat etmiştir?

- A) Hz. Mus'ab b. Umeyr
- B) Hz. Halid b. Velid
- C) Hz. Hatice
- D) Hz. Aişe

18. Aşağıdakilerden hangisi Hz. Muhammed (sav.)'e verilen lakaptır?

- A) el-Hakem
- B) es-Sıddık
- C) el-Faruk
- D) el-Emin

19. Kur'an, öncelikle indirildiği toplumu muhatap almış, bununla birlikte tüm insanları ilgilendiren genel mesajlara da yer vermiştir.

Buna göre aşağıdaki ayetlerin hangisi, indirildiği topluma özel bir mesaj içermektedir?

- A) "İnsan neden yaratıldığına bir baksın!" (Târik suresi, 5. ayet)
- B) "Anlayasınız diye biz onu Arapça bir Kur'an olarak indirdik." (Yûsuf suresi, 2. ayet)
- C) "Ey insanlar! Doğrusu biz sizi bir erkekle bir dişiden yaratık..." (Hucurat suresi, 13. ayet)
- D) "Gerçek şu ki, insan kendini kendisine yeterli görerek azar." (Alak suresi, 6-7. ayetler)

1. OTURUM

20. • Çevremizde Yasin, Taha ve Ecrin gibi isimlerin varlığı
• Taziyelerde "inna lillah ve inna ileyhi raciun" ayetinin okunması
• Evlere nazardan koruduğuna inanılan ayetlerin asılması

Verilen bilgiler Kur'an ile ilgili aşağıdakilerden hangisine delil oluşturur?

- A) Kültürümüzdeki etkisine
B) Allah tarafından korunduğuna
C) Akli kullanmayı teşvik ettiğine
D) Kamil insan modeli sunduğuna

(478) MANTIK – 1

1. Mantık doğrusu, doğruluğu gözlem ve deneyle değil, akıl aracılığıyla bilinen yargılardır.

Buna göre aşağıdakilerden hangisi mantık doğrusuna örnektir?

- A) Taş serttir.
B) Kar beyazdır.
C) Hiçbir insan kedi değildir.
D) Su 100°C'de kaynar.

2. Bütün öğretmenler üretkendir. Kemal öğretmendir. O halde, Kemal de üretkendir.

Verilen akıl yürütme aşağıdakilerden hangisine örnektir?

- A) Tümünden gelim
B) Tüme varım
C) Analoji
D) Özdeşlik

3. "Bir şey ne ise odur, her şey kendisinin aynısıdır." özdeşlik ilkesinin tanımıdır.

Aşağıdakilerden hangisi özdeşlik ilkesine örnektir?

- A) Cemre hem başarılı hem de başarısız olamaz.
B) Kapı ya kapalıdır ya da açıktır.
C) Taş hem var hem de yok olamaz.
D) Öğrenci öğrencidir.

4. Aşağıdakilerden hangisi İslâm mantıkçılarından biri değildir?

- A) İbn-i Sina B) Aristoteles
C) Farabi D) Râzi

5. Dil içinde tek başına anlam taşıyan en küçük birime "terim" denir.

Buna göre aşağıdakilerden hangisi terimdir?

- A) Ve B) İle
C) Bu D) Kelebek

6. Duyularla algılanan, bir nesneye işaret eden kavramlara "somut kavram" denir.

Buna göre aşağıdakilerden hangisi somut kavramdır?

- A) Güzellik B) Yiğitlik
C) Kitaplık D) İnsanlık

7. İnsanın hem neliği hem de gerçekliği vardır; fakat, Kaf dağının neliği vardır, ama gerçekliği yoktur.

Buna göre kavramların gerçeklik olarak belirlenmesinin ölçütü aşağıdakilerden hangisidir?

- A) Anlaşılır olması
B) Olumlu olması
C) Tikel olması
D) Dış dünyada bulunması

8. Varlık → Canlı → Hayvan → Kuş

Yukarıdaki kavram sıralamasında kaplamı en fazla olan hangisidir?

- A) Varlık B) Canlı
C) Hayvan D) Kuş

9. Hiçbir kedi köpek değildir. Hiçbir köpek kedi değildir.

Bu yargılara göre kedi ve köpek kavramları arasındaki ilişki çeşidi aşağıdakilerden hangisinde verilmiştir?

- A) Eşitlik
B) Ayrıklık
C) Tam girişimlilik
D) Eksik girişimlilik

10. İlinti, birçok türde ortaklaşa bulunan özelliklerdir.

Buna göre aşağıdakilerden hangisi insanın ilintisidir?

- A) Sosyalleşmek
B) Alet yapmak
C) Yürümek
D) Düşünmek

11. Doğru veya yanlış bir yargı bildiren ifadelere "önerme" denir.

Buna göre aşağıdakilerden hangisi önermedir?

- A) Ödevini neden yapmadın?
B) Trafik kazaları olmasın.
C) İnsanlar kardeştir.
D) Vay canına!

12. Birden fazla yargı bildiren önermelere "bileşik önerme" denir.

Buna göre aşağıdaki önermelerden hangisi bileşik önermedir?

- A) Gökçe çalışır ise sınıfını geçer.
B) Bazı çocuklar yaramazdır.
C) Müzik ruhun gıdasıdır.
D) Ali öğrencidir.

13. "Tüm bitkiler yeşildir." önermesinin karşı olum karesine göre çelişki olan önerme aşağıdakilerden hangisidir?

- A) Hiçbir bitki yeşil değildir.
B) Bazı bitkiler yeşildir.
C) Bazı bitkiler yeşil değildir.
D) Kimi bitkiler yeşildir.

14. Bir önermenin niteliğini bozmadan öznesini yüklem, yüklemine özne yapılması düz döndürmedir.

Buna göre "Bazı madenler katıdır." önermesinin düz döndürmesi aşağıdakilerden hangisidir?

- A) Bütün katılar madendir.
B) Bazı katılar madendir.
C) Hiçbir katı maden değildir.
D) Tüm katılar maden değildir.

1. OTURUM

(479) MANTIK – 2

15. Karşı olum karesine göre tümel olumlu önermenin karşıtı aşağıdakilerden hangisidir?

- A) Çelişik
B) Tikel olumlu
C) Tikel olumsuz
D) Tümel olumsuz

16. Bütün bitkiler canlıdır. Ağaç bitkidir. O halde, ...

Yukarıda verilen kıyasta zorunlu olarak çıkarılacak sonuç önermesi aşağıdakilerden hangisidir?

- A) Ağaç canlıdır.
B) Ağaç bitki değildir.
C) Bazı ağaçlar bitkidir.
D) Bütün bitkiler ağaçtır.

17. Bütün madenler katıdır. Bakır madendir. O halde bakır katıdır.

Verilen geçerli kıyasta büyük terim aşağıdakilerden hangisidir?

- A) Bütün B) Katı
C) Maden D) Bakır

18. Bütün insanlar akıllıdır. Sokrates insandır. O halde Sokrates akıllı değildir.

Verilen hatalı kıyasta aşağıdaki kıyas kurallarından hangisine uyulmamıştır?

- A) İki tikel öncülden sonuç çıkmaz.
B) İki olumsuz öncülden sonuç çıkmaz.
C) İki olumlu öncülden çıkan sonuç olumludur.
D) Öncüllerden biri olumsuzsa sonuç olumsuzdur.

19. Bir kıyasta sonuca dayanak olan önermelere verilen ad aşağıdakilerden hangisidir?

- A) Sonuç B) Tanım
C) Kavram D) Öncül

20. Aşağıdakilerden hangisi basit kıyas çeşitlerindendir?

- A) Kesin kıyas
B) Sorit (Yığın)
C) Karma kıyas
D) Zincirleme kıyas

1. Aşağıdakilerden hangisi sembolik mantığı klasik mantıktan farklı kılan bir özelliktir?

- A) Günlük dili kullandığı için içeriğin etkisinde olması
B) Aristoteles mantığının alanında kalmaya çalışması
C) Geçerli çıkarımlara ulaşmayı amaç edinmesi
D) Sembolik dil kullanılması

2. Aşağıdaki önermelerden hangisi basit önermeyi ifade eder?

- A) P B) $\sim p$
C) $p \Rightarrow q$ D) $p \wedge q$

3. Aşağıdaki önermelerin hangisinde koşul eklemi (\Rightarrow) kullanılmıştır?

- A) Tekin ve Mehmet çalışkandır.
B) Hava yağmurlu veya karlıdır.
C) Ali çalışırsa başarır.
D) Ali yaramaz değildir.

4. "Ayşe ve Hülya kardeştir." önermesi kaç yüklemlidir?

- A) Birli yüklemler
B) İkili yüklemler
C) Üçlü yüklemler
D) Dörtlü yüklemler

5. Aşağıdaki önermelerden hangisinin tek ana bileşeni vardır?

- A) $\sim p$ B) $p \vee q$
C) $p \wedge q$ D) $\sim p \Rightarrow \sim q$

6. "Bir sporcu zeki ve çevik ise başarılı olur." önermesinin önermeler mantığında sembolleştirilmiş biçimi aşağıdakilerden hangisidir?

- A) $(p \vee q) \Rightarrow r$ B) $(p \wedge q) \vee r$
C) $(p \wedge q) \Rightarrow r$ D) $(p \Rightarrow q) \Rightarrow r$

7. Hiçbir doğrulayıcı yorumlaması bulunmayan önerme tutarsızdır.

Buna göre aşağıdaki önermelerden hangisi tutarsızdır?

- A) $\frac{P}{D}$ B) $\frac{P}{Y}$
D Y
C) $\frac{P}{D}$ D) $\frac{P}{Y}$
Y D

8. İki önermenin birbirine denk olması, aynı satırda aynı doğruluk değerlerini almış olmalarını gerektirir.

Buna göre aşağıdaki önermelerden hangisi denk önermedir?

- A) $\frac{p}{D} \mid \frac{q}{Y}$ B) $\frac{p}{Y} \mid \frac{q}{D}$
D Y
C) $\frac{p}{D} \mid \frac{q}{Y}$ D) $\frac{p}{D} \mid \frac{q}{Y}$
Y Y

9. Aşağıdaki önermelerden hangisi geçerlidir?

- A) $p \vee q$ B) $p \vee \sim q$
D D
D D
Y D
D D
C) $p \wedge q$ D) $p \Rightarrow q$
Y D
Y Y
Y D
D Y

10. Çözümleyici çizelge kurallarına göre $p \wedge q$ önermesinin çözümlemesi aşağıdakilerden hangisidir?

- A) $\frac{p \wedge q}{(I)}$ B) $\frac{p \wedge q}{(I)}$
p $\sim q$ p q
C) $\frac{p \wedge q}{p}$ D) $\frac{p \wedge q}{\sim p}$
p (I) q (I)

1. OTURUM

11. "Mustafa doktordur." önermesinin niceleme mantığında sembolik ifadesi hangisidir?

- A) P B) -Fa
C) Fab D) Fa

12. İçinde x, y, z gibi değişkenler geçen önermelere açık önerme denir.

Verilen tanıma göre aşağıdakilerden hangisi açık önermedir?

- A) $8+4=12$
B) x öğretmendir.
C) Sokrates filozoftur.
D) Ankara Türkiye'nin başkentidir.

13. " $\forall x$ (x tek sayıdır)" açık önermesinin doğruluk değeri aşağıda verilen evrenlerden hangisinde doğrudur?

- A) $E=\{2,4,6\}$ B) $E=\{1,2,3\}$
C) $E=\{2,3,6\}$ D) $E=\{1,3,5\}$

14. "Bazı insanlar çalışkandır." önermesinin niceliğine dokunmadan sadece niteliği değiştirilirse aşağıdaki önermelerden hangisi elde edilir?

- A) Bazı insanlar çalışkan değildir.
B) Tüm insanlar çalışkandır.
C) Tüm çalışkanlar insandır.
D) Her çalışkan insandır.

15. Aşağıdakilerden hangisi üç değerli mantığın kabul ettiği doğruluk değerlerinden değildir?

- A) Doğru B) Yanlış
C) Özdeş D) Belirsiz

16. "Pamuğun yumuşak olması mümkündür." önermesinin kiplik mantığında sembolik ifadesi hangisidir?

- A) $\square P$ B) $\diamond P$
C) $\neg P$ D) $P \wedge P$

17. "Anka kuşu vardır." önermesinin varlık mantığında sembolü aşağıdakilerden hangisidir?

- A) $E1a$ B) Ea
C) $Fa \Rightarrow Fb$ D) Fa

18. Doğruluğu açıkça belli olan ve ispatlanmaya gerek olmayan önermeler aşağıdakilerden hangisiyle ifade edilir?

- A) Tanım
B) Aksiyom
C) Tüme varım
D) Deneysel yöntem

19. Aşağıdakilerden hangisi doğa bilimlerinden değildir?

- A) Fizik B) Kimya
C) Matematik D) Biyoloji

20. Aşağıdakilerden hangisi mantık felsefesinin ele aldığı temel sorunlardan değildir?

- A) Bilginin kaynağıyla ilgili sorunlar
B) Mantık değişmezleriyle ilgili sorunlar
C) Geçerlilik kavramıyla ilgili sorunlar
D) Mantık kavramıyla ilgili sorunlar

(483) SAĞLIK BİLGİSİ – 1

1. Aşağıdakilerden hangisi, ortopedik engelliliğe neden olabilecek durumlardan biri değildir?

- A) Romatizma hastalıkları
B) Yeterli beslenme
C) Ateşli hastalıklar
D) Kazalar

2. • Verem savaş dispanserleri
• Üniversitelerin medikososyal birimleri
• Kamu idareleri bünyesindeki kurum hekimlikleri

Yukarıda verilen sağlık üniteleri hangi tedavi hizmetleri kapsamında değerlendirilir?

- A) Birinci basamak
B) İkinci basamak
C) Üçüncü basamak
D) Rehabilitasyon

3. I. Psikolog
II. Fizyoterapist
III. Fizik tedavi uzmanı

Yukarıdakilerden hangileri rehabilitasyon tedavisi ekibinde bulunan kişilerdendir?

- A) Yalnız I B) I ve II
C) II ve III D) I, II ve III

4. Bir takvim yılında görülen ölüm sayısını, o ülkenin yıl ortası nüfusuna bölümünün bin ile çarpımına ne ad verilir?

- A) Ana ölüm hızı
B) Nüfus artış hızı
C) Kaba ölüm hızı
D) Bebek ölüm hızı

5. Bilgi, görgü, hoşgörü ve bedensel yetenekler yönünden en üst düzeyde gelişmeye - - - - adı verilir.

Bu ifadede boş bırakılan yere aşağıdakilerden hangisi yazılmalıdır?

- A) refleks B) büyüme
C) öğrenme D) olgunlaşma

6. Aşağıdakilerden hangisi, sağlıklı bir bebeğin 6. ayında görülebilen davranışlardandır?

- A) Mama sandalyesinde oturup sallanan nesneyi yakalaması
B) Bir eşyayı tutup kendine çekerek ayağa kalkması
C) Kendi başına yürümesi
D) Emeklemesi

7. I. Yaşlılarıyla birlikte oynamayı öğrenmesi
II. Geniş refleksler topluluğuna sahip olması
III. Kendi davranışlarının sorumluluğunu yüklenbilmesi

Yukarıdakilerden hangileri, okul çağı dönemindeki sağlıklı bir çocuğun sahip olduğu özelliklerdendir?

- A) I ve II B) I ve III
C) II ve III D) I, II ve III

1. OTURUM

8. Aşağıdakilerden hangisi, okul çağındaki çocuklar için beslenme önerilerindedir?

- A) Ders çalışırken açlık hissedildiğinde çips gibi yağlı ve tuzlu besinlerin tüketilmesi
- B) Tuvalet ve genel kullanıma açık çeşmelere su içilmesi
- C) Kahvaltı yapma alışkanlığının edinilmesi
- D) Açıkta satılan besinlerin satın alınması

9. Şişmanlığı saptamak için kullanılan yöntemlerin en çok tercih edileni beden kitle indeksine (BKİ) göre değerlendirme yöntemidir.

Buna göre, beden kitle indeksi "18.5 kg/boy'un altında" olan kişiler için ne söylenebilir?

- A) Zayıf
- B) Normal
- C) Şişman
- D) Hafif şişman

10. Kişinin aç kalarak, kilosunu olması gereken en düşük vücut ağırlığının altına düşürecek kadar aşırı kilo kaybetmesine neden olan yeme bozukluğuna ne ad verilir?

- A) Obezite
- B) Gingivitis
- C) Bulimia nervosa
- D) Anoreksiya nervosa

11. Banyo yapma ve giyecek temizliğiyle ilgili verilenlerden hangisi yanlıştır?

- A) Suyun, kurna ya da kovadan alınarak kullanılmasının uygun olması
- B) Başkasına ait havlu, terlik, kese gibi malzemelerin kullanılması
- C) Banyo yapılırken suyun sıcaklığının ortalama 33-38°C olması
- D) Yatarken giyilen kıyafetlerin sık yıkanması ve ütülenmesi

12. Ağız ve diş sağlığının korunması ile ilgili olarak verilenlerden hangisi doğrudur?

- A) Dişlerin sert cisimlerle karıştırılması
- B) Kabuklu yiyeceklerin dişlerle kırılması
- C) Aşırı tatlı ve şekerli yiyeceklerin tüketilmesi
- D) Yılda en az iki kez diş hekimine muayene olunması

13. Aşağıdakilerden hangisi ruh sağlığı hizmetlerinin ikincil koruma ilkelerindedir?

- A) İlaç kullanımının takip edilmesi
- B) Kişisel gelişim programlarının uygulanması
- C) Kromozomal anomalileri önlemek amacıyla eğitim verilmesi
- D) Ruh sağlığı açısından risk gruplarının belirlenmesi ve önlem alınması

14. Aşağıdakilerden hangisi sınav kaygısının fizyolojik belirtilerindedir?

- A) Korku
- B) Dikkatsizlik
- C) Kalp çarpması
- D) Konsantrasyon kaybı

15. I. İletişimin yargılayıcı olması
II. Uygun zaman ve mekânın seçilmesi
III. Kaynağın ve alıcının iletişimde isteksiz olması

Yukarıdakilerden hangileri etkili iletişim için gerekli hususlardandır?

- A) Yalnız I
- B) Yalnız II
- C) Yalnız III
- D) I, II ve III

16. Kişinin parasını yönetmek, şahsa ait paraya veya kazanç sağlanmasına izin vermemek, hangi şiddet türü içerisinde değerlendirilir?

- A) Cinsel şiddet
- B) Fiziksel şiddet
- C) Duygusal istismar
- D) Ekonomik istismar

17. Madde kullanımının bırakılmasına, etkisinin başka bir madde tarafından engellenmesine ya da madde miktarının azaltılmasına bağlı olarak vücutta bazı fizyolojik etkilerin ortaya çıkması durumudur.

Bu cümlede tanımı yapılan kavram aşağıdakilerden hangisidir?

- A) Tolerans gelişimi
- B) Fiziksel bağımlılık
- C) Psikolojik bağımlılık
- D) Yoksunluk sendromu

18. Tütünün içerisinde bulunan ve esas bağımlılık yapan madde aşağıdakilerden hangisidir?

- A) Arsenik
- B) Metanol
- C) Nikotin
- D) Amonyak

19. Aşağıdakilerden hangisi alkolün sindirim sistemine etkilerindedir?

- A) Ülser
- B) Baş dönmesi
- C) Benmerkezcilik
- D) Çift ve bulanık görme

20. Uyuşturucu madde bağımlılığının tedavisi, tedavi ve rehabilitasyon olmak üzere iki aşamada gerçekleşir.

Buna göre, aşağıdakilerden hangisi bağımlı kişiye "tedavi aşamasında" yapılması gereken uygulamalardandır?

- A) Olumlu hober kazanmasının sağlanması
- B) Ruhsal problemlerin çözümlenmeye çalışılması
- C) Bağımlı olduğu maddeden uzaklaştırılarak yoksunluk belirtileriyle savaşıması
- D) Tekrar iş gücü kazandırılarak çalışabilecek ve topluma yararlı olacak hale getirilmesi

1. OTURUM

(484) SAĞLIK BİLGİSİ – 2

1. Aşağıdakilerden hangisi ebeveynin çocuğuna olan sorumluluklarından biri değildir?
- A) Çocuğunun ruh sağlığını zedelemek
B) Çocukla sağlıklı bir iletişim kurmak
C) Çocuğuyla kaliteli zaman geçirmek
D) Çocuğa duygusal anlamda destek vermek
2. Çeşitli nedenlerle öz ailesi yanında bakılamayan çocukların, kısa veya uzun süreli olarak bakımlarını üstlenen aile ya da kişilere koruyucu aile denilmektedir.
- Buna göre verilenlerden hangisi koruyucu aile olabilmek için gerekli koşullardan biri değildir?**
- A) 25-65 yaş aralığında bulunmak
B) En az üniversite mezunu olmak
C) Türkiye’de sürekli ikamet etmek
D) Türkiye Cumhuriyeti vatandaşı olmak
3. Aşağıdakilerden hangisi aile planlamasının amaçlarından biri değildir?
- A) Doğum yaşının ayarlanması
B) İstenmeyen gebeliklerin önlenmesi
C) Çocuk sahibi olmayan ailelere yardımcı olunması
D) Ailelerin, istedikleri cinsiyette çocuk sahibi olmalarının sağlanması
4. I. Düzenli olarak ayda bir kez, kas içine enjeksiyonla uygulanır.
II. Anne sütünü etkilemediği için emziren kadınlar da kullanabilir.
III. Kadında doğal olarak bulunan kadınlık hormonlarından ikisini (östrojen ve progesteron) içerir.
- Yukarıdakilerden hangileri genel koruma yöntemlerinden “aylık iğnelerin” özelliklerindedir?**
- A) I ve II
B) I ve III
C) II ve III
D) I, II ve III

5. Aşağıdakilerden hangisi gebelik ihtimalinin yüksek olduğunu gösteren belirtilerden biri değildir?
- A) Baş dönmesi
B) Sık idrara çıkılması
C) Beklenen adet başlanması
D) Bulantı ve bazen kusmanın olması
6. Gebeliğin kaçınıcı haftadan önce sona ermesi “düşük” olarak adlandırılır?
- A) 20. B) 25. C) 30. D) 35.
7. Gebeliğin son döneminde, yetersiz beslenmenin de içinde bulunduğu birçok nedene bağlı olarak ortaya çıkan gebelik zehirlenmesinde aşağıdakilerden hangisi görülür?
- A) Kan basıncının düşmesi
B) İdrarla D vitamininin atılması
C) Plasenta dolaşımının iyi olması
D) El ve ayaklarda ağır ödem oluşması
8. I. Kendisi Rh(-), eşi Rh(+) kan grubuna sahip olan anne adaylarının dikkatli olması gerekir.
II. Anne Rh(-), bebek Rh(-) olduğunda kan uyuşmazlığı vardır.
- Yukarıda kan uyuşmazlığıyla ilgili verilen bilgiler için ne söylenebilir?**
- A) I. doğru, II. yanlış
B) I. yanlış, II. doğru
C) Her ikisi de doğru
D) Her ikisi de yanlış
9. Anne sütünün yeterince verilemediği sağlıklı bebeklerde, kaçınıcı aydan sonra ek gıdalara başlanmalıdır?
- A) 9. B) 6. C) 3. D) 1.
10. Türkiye’de çocuklara uygulanan zorunlu aşı takvimine göre doğumda, 1. ve 6. ayın sonunda yaptırılması gereken aşı aşağıdakilerden hangisidir?
- A) BCG
B) KKK
C) Hep B
D) OPA

11. Aşağıdakilerden hangisi kanserde erken tanının önemini artıran sebeplerdendir?
- A) Tedaviyi zorlaştırması
B) Tedavi şansını azaltması
C) Tedavi giderlerini artırması
D) Doku ve organ kaybını önlemesi
12. Şeker (diyabet) hastalarının, sağlıklı bir yaşama sahip olmak ve kan şekerlerini dengede tutabilmek için uymaları gereken bazı kuralları vardır.
- Buna göre verilenlerden hangisi şeker (diyabet) hastalarının uymaları gereken kurallardandır?**
- A) Egzersiz yapmak
B) Çıplak ayakla dolaşmak
C) Her on yılda bir, göz ve böbrek muayenesi yaptırmak
D) Ayaklarını haftada bir sıcak suyla yıkamak ve kurulandıktan kaçınmak
13. Aşağıdakilerden hangisi kolesterolü normal değerlerde tutarak oluşabilecek kalp ve damar hastalıklarını önlemeye yardımcı davranışlardandır?
- A) Kilonun azaltılması
B) Egzersizden kaçınılması
C) Katı yağların tercih edilmesi
D) Aşırı kalorili yiyeceklerin tüketilmesi
14. • Çeşitli organlarda ve eklemlerde tekrarlayan iltihabi ataklara neden olur.
• Ataklar genellikle 24-48 saat sürer.
• Hastalarda ataklar dışında hiçbir belirti yoktur.
- Yukarıda özellikleri verilen genetik geçişli hastalık hangisidir?**
- A) Hemofili
B) Akdeniz ateşi
C) Talasemi minör
D) Talasemi majör

1. OTURUM

15. Aşağıdakilerden hangisi kronik akciğer hastalarının yaşam kalitesini düşürür?

- A) Düzenli uyumak
- B) Doğru beslenmek
- C) Hekim kontrolünü yaptırmak
- D) Sigara içilen ortamlarda bulunmak

16. Aşağıdakilerden hangisi bulaşıcı hastalıklardan korunmak için kaynağa yönelik olarak alınan önlemlerdendir?

- A) Kemoproflaksi
- B) İmmünizasyon
- C) Filyasyon arama
- D) Sağlamların eğitimi

17. Enfeksiyon etkenlerinin sağlam kişilere bulaşmasında rol oynayan eklem bacaklılara vektör denilmektedir.

Buna göre verilenlerden hangisi vektörlerle bulaşan hastalıklardandır?

- A) Sıtma
- B) Kuduz
- C) Brusella
- D) Kuş gribi

18. Kan ve cinsel ilişki yoluyla vücutta bulaşarak sinsi bir hastalığa yol açan "Hepatit B" ile ilgili verilenlerden hangisi doğrudur?

- A) Özel bir ilaç tedavisinin olması
- B) Siroz ve karaciğer kanserine neden olması
- C) Hastalara protein ve karbonhidrattan fakir, yağdan zengin diyet uygulanması
- D) Virüs etkeni taşıyan kurumuş kan ve salya gibi atıkların, bir haftadan sonra bulaştırıcılığının olmaması

19. Aşağıdakilerden hangisi ilaç kullanımında yapılan hatalı davranışlardandır?

- A) Hekime danışılmadan ilaçların kesilmemesi
- B) Hekimin bilgisi olmadan başka ilaçlara başvurulmaması
- C) İlaçların alınmadan önce son kullanma tarihine bakılması
- D) İyileşme sağlayacak ilaçların deneme yanılma yöntemiyle bulunması

20. Vücut sıcaklığının koltuk altından ölçüldüğündeki normal değeri kaç °C'dir?

- A) 40,5
- B) 38,5
- C) 36,5
- D) 34,5

(491) TRAF. VE İLK YARD. – 1

1. Yaya, hayvan ve motorsuz araçların giremediği, ancak izin verilen motorlu araçların yararlandığı, trafiğin özel kontrole tabi tutulduğu kara yolu aşağıdakilerden hangisidir?

- A) Otoyol
- B) Tali yol
- C) Geçiş yolu
- D) Bağlantı yolu

2. Araç sürücüleri taşıt yolunun dar olduğu yerlerdeki karşılaşmalarda aksini gösteren bir trafik işareti yoksa aşağıdakilerden hangisine geçiş hakkı vermek suretiyle geçiş kolaylığı sağlamak zorundadır?

- A) Minibüsü süren lastik tekerlekli traktöre
- B) Motorlu aracı süren motorsuz araca
- C) Motorsuz aracı süren motorlu araca
- D) Otomobili süren otobüse

3. I. Hoşgörülü olunması
II. Bencillikten uzak durulması
III. Olaylara aşırı tepki gösterilmesi

Trafik ortamını paylaşanlarda yukarıda verilen tutum ve davranışlardan hangilerinin bulunması hâlinde trafik düzeni ve güvenliği olumlu yönde etkilenir?

- A) Yalnız I
- B) I ve II
- C) II ve III
- D) I, II ve III

4. • Kaza sonrası meydana gelen maddi hasar miktarı
• İş gücü kaybının yanı sıra yaralıların tedavi süreçleri ve maliyeti

Trafik kazalarıyla ilgili olarak verilenler, aşağıdakilerden hangisini olumsuz yönde etkiler?

- A) Ülke ekonomisini
- B) Kasko sigortasının önemini
- C) Bireylerde trafik bilincinin oluşmasını
- D) Taşıt güvenlik donanımlarının gelişimini

5. Aşağıdakilerden hangisi kişiye bağlı gelişen trafik kazası nedenlerinden biri değildir?

- A) Alkol ve madde bağımlılığı
- B) Uzun yolculuklar ve yorgunluk
- C) Tehlikeye atılmaya hazır kişilik yapısı
- D) Olumsuz hava şartları ve yolların bozuk olması

6. I. Egzoz gazlarının hava kirliliğine neden olması
II. Gereksiz yere ya da gereğinden uzun kornaya basılması
III. Araçların egzoz borusu ve susturucularında orijinalliğin korunması

Verilenlerden hangileri trafiğin çevre üzerindeki olumsuz etkilerindedir?

- A) Yalnız I
- B) I ve II
- C) II ve III
- D) I, II ve III

1. OTURUM

7.



Şekildeki trafik görevlisinin duruş pozisyonuna göre aşağıdakilerden hangisi doğrudur?

- A) Yol bütün yönlerdeki trafiğe açıktır.
- B) Yol bütün yönlerdeki trafiğe kapalıdır.
- C) Görevlinin sağ ve sol kol istikametinde kalan yollar trafiğe açıktır.
- D) Görevlinin ön ve arka cephesinde kalan yollar trafiğe açıktır.

8. Işıklı trafik işaret cihazında yanan hangi ışık, ikaz mahiyetinde olup yanlış sırasına göre yolun trafiğe kapanmak veya açılmak üzere olduğunu gösterir?

- A) Sarı ışık
- B) Yeşil ışık
- C) Kırmızı ışık
- D) Kırmızı oklu ışık

9. Ebru, Murat ve Hasan'ın trafik işaret levhalarıyla ilgili görüşleri aşağıdaki gibidir.



Buna göre hangilerinin verdiği bilgi trafik işaret levhalarının görevi ile ilgilidir?

- A) Ebru ve Hasan
- B) Ebru ve Murat
- C) Hasan ve Murat
- D) Ebru, Murat ve Hasan

10. Taşıt yolu (Kaplama) üzerine çizilen hangi çizgi, taşıt yolunu bölünmüş yol durumuna getiren ayırıcı anlamındadır?

- A) Kesik yol çizgisi
- B) Devamlı yol çizgisi
- C) Kesik ve devamlı yol çizgisi
- D) Yan yana iki devamlı yol çizgisi

11. Seyir esnasında araçlarda emniyet kemeri kullanılması aşağıdakilerden hangisinin azalmasında etkili olur?

- A) Trafik kazalarının
- B) Trafik işaret levhalarının
- C) Trafikteki görevli sayısının
- D) Kaza anında ölüm ve yaralanmaların

12. Aşağıdakilerden hangisi güvenli seyahat için alınması gereken önlemlerdendir?

- A) Trafik yoğunluğu fazla olan güzergâhların tercih edilmesi
- B) Yol şartlarına göre kontrol edilebilecek hızda araç kullanılması
- C) Seyir esnasında elde cep telefonu ile konuşulması
- D) Sürüş öncesi alkollü içki içilmesi

13. Kara yollarında araç kullanan bir sürücünün aşağıdakilerden hangisini yapması yasaktır?

- A) İki şeridi birden kullanması
- B) Aracını gidiş yönüne göre yolun en sağından sürmesi
- C) Gidişe ayrılan yol bölümünün en sol şeridini sürekli işgal etmekten kaçınması
- D) Şerit değiştirmeden önce, gireceği şeritte sürülen araçların güvenle geçişlerini beklemesi

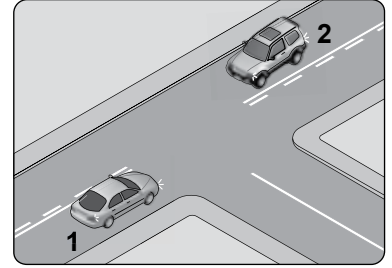
14. Taşıt sürücüleri ve yayalar, trafiği düzenleyen bir yetkili yoksa aşağıdakilerden hangisine uymak zorundadır?

- A) Kendi kurallarına
- B) Yolcuların isteklerine
- C) Diğer sürücülerin kurallarına
- D) Işıklı ve sesli trafik işaretlerine

15. Sürücülerin dönel kavşaklardaki dönüşlerde aşağıdakilerden hangisini yapması yanlıştır?

- A) Orta ada etrafında dönerken şeridini muhafaza etmesi
- B) Sola dönecekse orta adaya bitişik şeritten kavşağa girmesi
- C) Sağa dönecekse orta adaya bitişik şeritten kavşağa girmesi
- D) Geriye dönecekse orta adaya bitişik şeritten kavşağa girmesi

16. Şekildeki kavşakta 1 numaralı araç sağa, 2 numaralı araç ise sola dönüş yapmak istemektedir.



Bu araçlarla ilgili olarak aşağıdakilerden hangileri doğrudur?

- I. Her iki araçta dar kavisle dönmelidir.
- II. 1 numaralı araç geniş, 2 numaralı araç dar kavisle dönmelidir.
- III. 1 numaralı araç dar, 2 numaralı araç geniş kavisle dönmelidir.

- A) Yalnız I
- B) Yalnız II
- C) Yalnız III
- D) I, II ve III

17. Araçların durma ve duraklama halleri dışında genelde uzun süreli olarak bekletilmek üzere bırakılmasına ne ad verilir?

- A) Trafikten men
- B) Trafik kazası
- C) İşaretleme
- D) Park etme

18. Taşıt yolunun karşı tarafına geçmek isteyen yayalar aşağıdakilerden hangisini kullanmaları hâlinde kazalara neden olabilir?

- A) Okul geçitlerini
- B) Yolun en geniş kesimini
- C) Kavşak giriş ve çıkışlarını
- D) Trafik ışıklarının bulunduğu yerleri





1. OTURUM

19. I. Olay yerinden uzaklaşmak
II. Olayı en yakın zabıta veya sağlık kuruluşuna bildirmek
III. Kaza yerinde usulüne uygun ilk yardım tedbirlerini almak

Trafik kazasına karışan veya olay yerinden geçmekte olanlar yukarıda verilenlerden hangilerini yapmakla yükümlüdür?

- A) Yalnız I B) I ve II
C) II ve III D) I, II ve III

20. Aşağıdakilerden hangisi cumhurbaşkanına tahsis edilen araçların plakasıdır?

- A) 
- B) 
- C) 
- D) 

(492) TRAF. VE İLK YARD. – 2

1. Aşağıdakilerden hangisi kaza sonrası güvenli bir ortamın oluşturulması için yapılması gereken uygulamalardandır?

- A) Olay yerinin diğer araç sürücüleri tarafından görünmesinin engellenmesi
B) Yardımı güçleştirecek meraklı kişilerin olay yerinden uzaklaştırılması
C) Araç LPG'li ise bagajında bulunan tüpün vanasının kapatılmaması
D) Kazaya uğrayan aracın kontağının açık bırakılması

2. İlk yardımın ABC'si olarak kabul edilen uygulamalardan "C" dolaşımın değerlendirilmesini ifade etmektedir.

Buna göre aşağıdakilerden hangisi dolaşımın değerlendirilmesi aşamasında ilk yardımcının yaptığı uygulamalardandır?

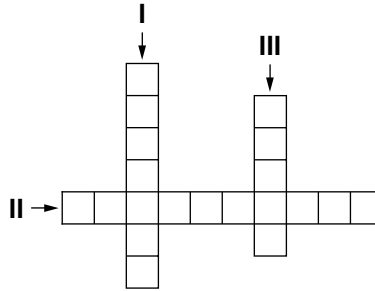
- A) Kazazedeye "İyi misiniz?" diye sorulması
B) Kazazedeye baş-çene pozisyonu verilmesi
C) İlk yardımcının yüzünü kazazededenin ağzına yaklaştırması
D) Kazazedenin şah damarından 5 saniye süreyle nabız alınması

3. İlk yardımcı, başını kazazedenin göğsüne bakacak şekilde yan çevirerek yüzünü kazazededenin ağzına yaklaştırır, - - - - ile solunum yapıp yapmadığını 10 saniye süreyle değerlendirir.

Bu ifadeye boş bırakılan yere aşağıdakilerden hangisi yazılmalıdır?

- A) bak-dinle-hisset yöntemi
B) Heimlich manevrası
C) turnike uygulaması
D) şok pozisyonu

4.



- I. Nefes alma ve verme işlemidir.
II. Kalbin kasılma ve gevşeme anında damar duvarında yaptığı basınçtır.
III. Kalp atımlarının atardamar duvarına yaptığı basıncın, damar duvarında parmak uçlarıyla hissedilmesidir.

Bulmaca her kutuya bir harf gelecek şekilde tamamlandığında II numaralı alana aşağıdakilerden hangisi gelmelidir?

- A) Vücut ısısı B) Kan basıncı
C) Acil yardım D) Baş dönmesi

5. I. 18 yaşını doldurmamış kişiler
II. Organlarının karşılığında maddi kazanç şartı koşan kişiler
III. Doku ve organlarını bağışlamayı sağlığındayken belgelenirdikten sonra hayatını kaybetmiş kişiler

Verilenlerden hangileri yasal olarak doku ve organ bağışında bulunabilir?

- A) Yalnız I B) Yalnız II
C) Yalnız III D) I, II ve III

6. **Uzuv kopması durumunda, kopan parça kazazedeye birlikte en geç kaç saat içinde sağlık kuruluşuna sevk edilmelidir?**

- A) 6 B) 9 C) 12 D) 15

7. Kalp-damar sisteminin yaşamsal organlara uygun oranda kanlanma yapamaması nedeniyle ortaya çıkan, tansiyon düşüklüğü ile seyreden ve ani gelişen dolaşım yetmezliğine - - - - denir.

Bu ifadeye boş bırakılan yere aşağıdakilerden hangisi yazılmalıdır?

- A) koma B) şok
C) epilepsi D) bayılma

8. **Aşağıdakilerden hangisi hava yolu tıkanıklığı olan bir kazazedenin tam tıkanma yaşadığını gösteren belirtilerden biri değildir?**

- A) Konuşabilmesi
B) Nefes alamaması
C) Renginin morarması
D) Acı çekip ellerini boynuna götürmesi

9. I. Ateşli silah yaraları
II. Dikişleri ayrılmış yaralar
III. Isırma ve sokma ile oluşan yaralar

Verilenlerden hangileri yüksek enfeksiyon riski taşıyan yaralardandır?

- A) I ve II B) I ve III
C) II ve III D) I, II ve III

1. OTURUM

10. Aşağıdakilerden hangisi yaralanmalarda uygulanan genel ilk yardım kurallarından biri değildir?

- A) Kanamanın durdurulması
- B) Yara yerinin değerlendirilmesi
- C) Yaşam bulgularının kontrol edilmesi
- D) Yara üzerinin pamukla kapatılması

11. Delici karın yaralanmalarında uygulanan ilk yardıma ilişkin verilen bilgilerden hangisi yanlıştır?

- A) Yaşam bulgularının sık sık izlenmesi
- B) Dışarı çıkan organların içeri sokulmaya çalışılması
- C) Ağızdan yiyecek ya da içecek bir şey verilmemesi
- D) Isı kaybını önlemek için kazazedinin üzerinin örtülmesi

12. I. Kulağın su ile iyice yıkanması
II. Acil Yardım Servisinin aranarak tıbbi yardım istenmesi
III. Kesinlikle sivri ve delici bir cisimle müdahale edilmemesi

Verilenlerden hangileri kulağa yabancı bir cisim kaçması durumunda yapılacak ilk yardım uygulamalarındandır?

- A) I ve II
- B) I ve III
- C) II ve III
- D) I, II ve III

13. Aşağıdakilerden hangisi göze yabancı bir cisim batması veya metal bir cisim kaçması durumunda yapılacak ilk yardım uygulamalarındandır?

- A) Gereksizce kazazedinin yerinden oynatılmaması
- B) Gözün ışığa doğru çevrilip alt göz kapağının içine bakılması
- C) Nemli, temiz bir bezle çıkarılmaya çalışılması
- D) Üst göz kapağının açık tutulması

14. Zorlama, çarpma, düşme veya çeşitli darbeler sonucu oluşan ve eklem yüzeylerinin kalıcı olarak ayrılmasına sebep olan duruma ne ad verilir?

- A) Kırık
- B) Çıkık
- C) Donma
- D) Burkulma

15. Resimde görülen uygulama hangi kemik kırıklarının tespiti için yapılır?



- A) Bacak kemiği
- B) Ön kol kemiği
- C) Üst kol kemiği
- D) Köprücük kemiği

16. Bilinç kaybının en ileri durumu, koma hâli olarak bilinir.

Buna göre aşağıdakilerden hangisi koma hâli belirtilerindendir?

- A) Öksürmek
- B) Yutkunmak
- C) İdrar kaçırmak
- D) Sesli dürtülere tepki vermek

17. Aşağıdakilerden hangisi cilt yoluyla zehirlenmelerde yapılması gereken ilk yardım uygulamalarındandır?

- A) Su ile temastan kaçınılır.
- B) Zehir bulaşmış giysiler çıkarılır.
- C) Zehrin vücuda girdiği bölgenin dolaşımı engellenir.
- D) Zehirli maddenin vücuda girdiği bölge, ilk yardımcı tarafından emilir.

18. Kene, vücudunun bir bölümünü ısırdığı yerden deri içine sokar ve kan emer.

Buna göre aşağıdakilerden hangisi kene ısırması durumunda yapılması gereken ilk yardım uygulamalarındandır?

- A) Kenenin çıkarılmaya çalışılması
- B) Kene üzerine kimyasal madde dökülmesi
- C) Kenenin bulunduğu bölgenin çamaşır suyu ile yıkanması
- D) Kene kendiliğinden çıkmışsa hasta ile beraber sağlık kuruluşuna götürülmesi

19. Aşağıdakilerden hangisi yılan ısırıklarının özelliklerinden biri değildir?

- A) Deride diş izleri vardır.
- B) Isırık genellikle yarım ay şeklindedir.
- C) Zehrin beyne herhangi bir etkisi yoktur.
- D) Isırılan yerde ağrı ve yanma duygusu olur.

20. • İlk yardımcı, kazazedeye sırtı dönük olarak çömelir ve bacaklarını kavrar.
• Kazazedinin kolları ilk yardımcının göğsünde birleştirilir.
• Ağırlık dizlere verilerek kazazede kaldırılır.

Yukarıda uygulama basamakları verilen taşıma tekniği hangisidir?

- A) Sırtta taşıma
- B) Kucakta taşıma
- C) Omuzda taşıma
- D) Sandalyeyle taşıma

1. OTURUM

(500) İNGİLİZCE – 6

1 - 20. sorularda boş bırakılan yere uygun gelen kelime veya ifadeyi işaretleyiniz.

1. - - - - you come early, you will get a good seat.
A) As B) If C) Up D) Of
2. I can't finish my project - - - - I don't have enough time.
A) because B) or
C) but D) such
3. - - - - Kaan was injured, he didn't go to hospital.
A) As long as B) Although
C) Because D) In spite of
4. - - - - I get into the house, I wash my hands and take off my clothes.
A) Because B) While
C) Although D) As soon as
5. Esra didn't remember the place - - - - she lost her credit card.
A) whose B) where
C) which D) who
6. The lady - - - - is waiting at the bus stop is an architect.
A) who B) which
C) whose D) where
7. It is - - - - cold today. Wear your thick clothes.
A) such B) much
C) many D) quite
8. Carry it - - - - , please.
A) easily B) simply
C) carefully D) angrily
9. It has rained a lot. - - - - is wet.
A) Something B) Everywhere
C) Nowhere D) Nothing
10. Sena - - - - comes to work on time. She is a punctual person.
A) never B) rarely
C) always D) sometimes
11. If I - - - - you, I would visit my grandfather once a week.
A) were B) do
C) am D) had been
12. If you - - - - cold water, you get ill.
A) will drink B) would drink
C) drink D) drinks
13. If I were you, I - - - - study harder.
A) would B) should
C) will D) can
14. Call me if you - - - - your mind.
A) remember B) decide
C) forget D) change
15. If she - - - - here earlier, she wouldn't have missed the bus.
A) come B) came
C) had come D) has come
16. The teacher - - - - wrote these questions must be very cruel.
A) which B) who
C) whose D) where
17. The man - - - - wife died two years ago lives alone in that big house.
A) who B) which
C) whose D) where
18. He started to run - - - - he saw me.
A) while B) in spite of
C) so fast that D) as soon as
19. - - - - it was cold, we didn't go out.
A) As soon as B) Because
C) Although D) But
20. - - - - they played better, they lost the game.
A) Although B) Because
C) Before D) If


(500) ALMANCA – 6

1 - 19. sorularda boş bırakılan yere uygun gelen ek, kelime veya ifadeyi işaretleyiniz.

1. Montag, - - - - , Mittwoch.
A) Dienstag B) Donnerstag
C) Freitag D) Samstag
2. Klaus : Warum sparst du Geld?
Peter : - - - - ich mir ein Haus kaufen kann.
A) Das B) Damit
C) Denn D) So
3. Sommer, Herbst, - - - -
A) Woche B) Tag
C) Winter D) Monat
4. Ayşe ist 16 Jahre alt. Susi ist auch 16 Jahre alt. Ayşe ist - - - - alt - - - - Susi.
A) so / wie B) als / wie
C) wie / als D) wie / so

1. OTURUM

5.



A: Wie ist das Wetter?

B: Es - - - - .

- A) regnet B) ist Gewitter
C) ist sonnig D) schneit

6. **Der Computer, - - - - ich gestern gekauft habe, ist sehr gut. (Akkusativ)**

- A) der B) die
C) das D) den

7. **Die Frau mit den langen Haaren denkt, sie - - - - sehr hübsch. (Konjunktiv I)**

- A) sind B) sei
C) seien D) seiest

8. **Ich mag Katzen, - - - - blaue Augen haben.**

- A) die B) das
C) der D) dem

9. **Meine Eltern - - - - heute in Istanbul.**

- A) ist B) bin C) sind D) seit

10. **A: Wo ist meine Jacke?
B: Sie hängt - - - - der Wand.**

- A) an B) am C) um D) im

11. **A: - - - - kommst du?
B: Aus der Schule.**

- A) Wohin B) Womit
C) Wie D) Woher

12. **Ich - - - - nicht Computer spielen, wenn ich viele Hausaufgaben hätte.**

- A) würde B) haben
C) hätte D) wird

13. **Susanne - - - - nicht so gut in Sport.**

- A) bist B) sie C) ist D) sein

14. **Meine Katze schläft - - - - meinem Bett.**

- A) im B) auf C) ins D) zur

15. **Der Mann, - - - - das Auto gehört, ist ein Musiker.**

- A) der B) die C) das D) dem

16. **Mein Vater sagt, er - - - - gerne Pilot geworden.**

- A) ist B) war C) sein D) wäre

17. **- - - - es regnet, spielen die Schüler Fußball.**

- A) Denn B) Obwohl
C) Trotzdem D) So

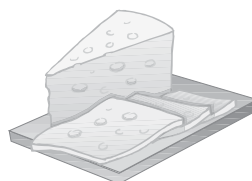
18. **Das schwarz- - - - - und schnell- - - - Auto gehört meinem Onkel.**

- A) -en / -en B) -e / -en
C) -e / -e D) -en / -e

19. **Ich kann dich - - - - Flughafen fahren.**

- A) bei B) vor C) zur D) zum

20.



Was ist das?

- A) Brot B) Schokolade
C) Käse D) Wasser

(500) FRANSIZCA – 6

1 - 18. sorularda boş bırakılan yere uygun gelen kelime veya ifadeyi işaretleyiniz.

1. **La mère de mon père est ma - - - - .**

- A) oncle B) tante
C) nièce D) grand-mère

2. **Kemal est le frère de Zeynep et Zeynep est - - - - de Kemal.**

- A) la sœur B) l'oncle
C) le cousin D) le frère

3. **- - - - boivent trois tasses de lait par jour.**

- A) Elle B) Il
C) Je D) Ils

4. **A: Tu n'es pas mariée?**

B: Si, je suis - - - - . J'ai deux filles.

- A) célibataire B) fiancée
C) mariée D) veuve

5. **Hier soir, ils - - - - partis pour la France.**

- A) ont B) vont
C) sont D) dont

6. **L'école est - - - - .**

- A) un lieu de repos
B) un lieu pour le mariage
C) un lieu de vacances
D) un lieu de travail

7. **Quand vous prenez votre voiture, - - - - votre ceinture.**

- A) a mis B) mettez
C) mettre D) met

1. OTURUM

8. Efe, on traverse la rue: ----
-moi la main!

- A) donné B) ayant donné
C) donner D) donne

9. Hier, Osman ---- chez le
dentiste.

- A) est allé B) est allée
C) es allé D) suis allée

10. Il fait froid, ---- votre manteau!

- A) mangez B) suivez
C) mettez D) soyez

11. Nous écoutons de la musique
en ---- du café au lait.

- A) mangent B) mangeons
C) manger D) buvant

12. En venant, ---- du fromage
blanc.

- A) achète B) acheter
C) a acheté D) acheté

13. Pendant ses heures de
loisir, Ahmet aime ---- à la
bibliothèque.

- A) comprendre B) s'appeler
C) lire D) connaître

14. ---- Turquie, les enfants ne
vont pas ---- l'école le samedi
et le dimanche.

- A) Au / en B) En / à
C) À / en D) Aux / au

15. Nous passons à table, ----
-vous les mains!

- A) laver B) regardez
C) travaillez D) lavez

16. Ne mangez pas avec ----.

- A) le ventre B) les doigts
C) les jambes D) le cou

17. Chez tes grands-parents, ----
sage!

- A) aie B) ayons
C) sois D) toi

18. Le petit déjeuner est servi ----
ma femme.

- A) par B) de C) des D) en

19. ve 20. sorularda verilen
cümlelerin Türkçe dengini
işaretleyiniz.

19. Ce tableau a été acheté par un
homme d'affaires.

- A) Bir iş kadını bu tabloyu satın
alacak.
B) Patronum bu tabloyu çok be-
ğendi.
C) Bu tablo bir iş adamı tarafın-
dan satın alındı.
D) Bu tabloyu bir iş kadını satıyor.

20. Venez donc jouer aux échecs
demain!

- A) Artık yarın satranç oynayalım.
B) Yarın da satranç oynamaya-
cağız.
C) Yarın da satranç oynayacağız.
D) Yarın satranç oynamaya gel-
senize.

(501) İNGİLİZCE – 7

1 - 20. sorularda boş bırakılan
yere uygun gelen kelime veya
ifadeyi işaretleyiniz.

1. Amasya is ---- for its apples.

- A) afraid B) keen
C) good D) famous

2. My son is ---- about online
games.

- A) crazy B) interested
C) familiar D) fond

3. You should be ashamed ----
yourself for telling my secret.

- A) in B) on C) about D) of

4. Who is responsible ---- this
mess?

- A) of B) for C) on D) at

5. You are too late. We were worried
---- you.

- A) about B) for
C) from D) with

6. When my friend called me, I ----
for my exam for two hours.

- A) am studying
B) will be studying
C) had been studying
D) have been studying

7. I have met this guy ----.

- A) before B) yet
C) never D) since

8. She ---- in a bank since she
graduated from the university.

- A) will be working
B) had been working
C) has been working
D) have been working

9. Have you ---- read such an
interesting story before?

- A) so far B) lately
C) ever D) never

10. My mother hasn't finished the
washing up ----.

- A) already B) yet
C) never D) still

11. It ---- raining all day. The roads
are wet.

- A) has been B) had been
C) will be D) is

1. OTURUM

12. I ---- Esin before I came here.

- A) will be visiting
- B) have visited
- C) am visiting
- D) had visited

13. The baby ---- all night yesterday. So, we took her to the doctor to see if everything was all right.

- A) has been resting
- B) had been crying
- C) will be sleeping
- D) is laughing

14. In the Central Anatolian Region, there is an extraordinary spa ---- is unique in the world.

- A) who
- B) what
- C) which
- D) where

15. Teacher: "Sit down."

The teacher ---- us to sit down.

- A) said
- B) told
- C) asked
- D) spoke

16. Ali: "I bought a black suit yesterday."

Ali said that he ---- a black suit the previous day.

- A) will buy
- B) is buying
- C) had bought
- D) has bought

17. Emir: "I am going to the cinema next week."

Emir said that he was going to the cinema ---- .

- A) last week
- B) the next week
- C) the previous week
- D) the following week

18. Ayça: "Where is my umbrella?"

Ayça asked me ---- her umbrella was.

- A) where
- B) which
- C) what
- D) if

19. ---- when you phoned.

- A) I will be sleeping
- B) I am watching TV
- C) I had been studying
- D) I have been cooking

20. When I arrived at the airport, ---- .

- A) the children will tidy their room
- B) the plane had landed
- C) he posts the letters
- D) the bus has arrived

(501) ALMANCA – 7

1 - 14. sorularda boş bırakılan yere uygun gelen ek, kelime veya ifadeyi işaretleyiniz.

1. Die Großmutter hat ---- über den Besuch gefreut.

- A) sie
- B) sich
- C) euch
- D) ihr

2. Mit ---- hast du dich getroffen?

- A) wer
- B) wie
- C) wo
- D) wem

3. Orangen und Äpfel sind ---- .

- A) Getränke
- B) Gemüse
- C) Salat
- D) Obst

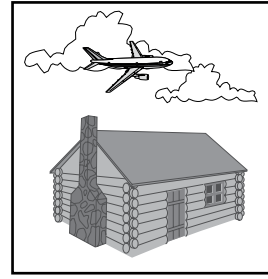
4. ---- Fußballmannschaft ist deine Lieblingsmannschaft?

- A) Welche
- B) Welcher
- C) Welches
- D) Welchen

5. Der Tee ist sehr ---- .

- A) groß
- B) lang
- C) heiß
- D) laut

6.



Das Flugzeug ist ---- dem Haus.

- A) vor
- B) über
- C) neben
- D) zwischen

7. A: Wer ist sie?

B: ---- ist Ayla.

- A) Sie
- B) Er
- C) Es
- D) Du

8. Sie ---- Tanzen.

- A) essen
- B) lernen
- C) trinken
- D) malen

9. Du ---- deine Kleider waschen.

- A) sollt
- B) sollen
- C) sollst
- D) soll

10. Hasan will keine Hausaufgaben ---- .

- A) machen
- B) machte
- C) mache
- D) gemacht

11. Kayseri ist ---- groß ---- Eskişehir.

- A) wie /so
- B) als /wie
- C) so / wie
- D) wie /als

12. Ayşe : Petra! ---- habt ihr in Deutschland Sommerferien?

Petra : Ende Juli.

- A) Wo
- B) Wann
- C) Wie
- D) Warum

1. OTURUM

13. Claudia - - - - nicht viel Schokolade essen.

- A) sollen B) sollst
C) sollt D) soll

14. - - - Abend gehen wir im Restaurant essen.

- A) Um B) Im C) Am D) Bei

15. "groß" sıfatının karşısı aşağıdakilerden hangisidir?

- A) klein B) neu
C) schön D) alt

16.



Was macht das Mädchen?

- A) laufen B) schreiben
C) sprechen D) schlafen

17. "17" rakamının yazılışı aşağıdakilerden hangisidir?

- A) siebenzehn B) zehnundsieben
C) siebzehn D) siebzig

18.



Was hat sie?

- A) Bauchschmerzen
B) Beinschmerzen
C) Halsschmerzen
D) Kopfschmerzen

19. "trinken" fiilinin geçmiş hali (Präteritum) aşağıdakilerden hangisidir?

- A) trank B) trinken
C) getrunken D) trinkt

20. Aşağıdaki kelimelerden bir grüplama yapıldığında hangisi farklıdır?

- A) Mond B) Uhr
C) Erde D) Sonne

(501) FRANSIZCA - 7

1 - 18. sorularda boş bırakılan yere uygun gelen kelime veya ifadeyi işaretleyiniz.

1. Regarde le petit chien! - - - - est très mignon.

- A) Vous B) Ils
C) Il D) Elle

2. Si tu as faim, - - - - un sandwich.

- A) prenant B) prendre
C) pris D) prends

3. A: Pourquoi tu n'es pas venu au stade?

B: - - - - je suis allé chez le dentiste.

- A) Parce que B) Comment
C) Quand D) Combien

4. Le restaurant - - - - à 10 heures.

- A) traverse B) ouvre
C) mange D) cherche

5. - - - - à la piscine pour être en bonne santé!

- A) Nagé B) Nagez
C) Faites D) Fait

6. Mustafa ne prend - - - - le car, il préfère l'avion.

- A) rien B) personne
C) jamais D) souvent

7. A: Paul téléphone souvent à sa sœur?

B: Oui, il - - - - téléphone souvent.

- A) lui B) le C) la D) leur

8. A: Tu connais cette actrice?

B: Oui, je - - - - connais.

- A) le B) lui C) leur D) la

9. Mme Thibaud - - - - le verre sur la jupe de sa fille.

- A) a versé B) as versé
C) est versé D) a été versé

10. Je vais - - - - quand je veux prendre un train.

- A) au marché B) à la gare
C) à la piscine D) au théâtre

11. J'ai rencontré tes frères à la cantine et je - - - - ai parlé.

- A) lui B) le
C) leur D) les

12. Ils - - - - de bonnes vacances à Ayvalık.

- A) sommes passés
B) avons passé
C) sont passées
D) ont passé

13. Kerem adore le thé. Il va souvent - - - - .

- A) à la charcuterie
B) à l'épicerie
C) au marché
D) au café

1. OTURUM

14. Pour avoir un permis de conduire, il devra suivre des cours dans - - - - .

- A) un défilé de mode
- B) une école primaire
- C) une auto-école
- D) une école maternelle

15. Je vous présente Tahsin - - - - est mon ami d'enfance.

- A) dont
- B) qui
- C) où
- D) que

16. Il n'a pas fait ses devoirs, car - - - - un match de basket à la télé.

- A) il y avait
- B) il faisait froid
- C) c'était
- D) il pleuvait

17. A : J'écoute de la musique.
B : Pardon, qu'est-ce que tu dis ?

A : Je dis que (qu') - - - - .

- A) il écoute mon CD
- B) j'écoute de la musique
- C) elle va écouter son CD
- D) j'ai écouté de la musique


18. Marc : J'ai dix-neuf ans .
Şule : Pardon, qu'est-ce qu'il dit ?

Rémi : Il dit que (qu') - - - - .

- A) il aura dix ans
- B) elle aura neuf ans
- C) il a dix-neuf ans
- D) elle a dix-neuf ans

19 ve 20. sorularda verilen resme göre doğru ifadenin bulunduğu seçeneği işaretleyiniz.

19.



Il est - - - - .

- A) énervé
- B) sérieux
- C) pessimiste
- D) gai

20.



Il a - - - - et il porte - - - - .

- A) de belles dents / des colliers
- B) une moustache / des lunettes
- C) les cheveux courts / une cravate
- D) les cheveux longs / des boucles d'oreilles

(502) İNGİLİZCE – 8

1 - 20. sorularda boş bırakılan yere uygun kelime veya ifadeyi işaretleyiniz.

1. You never fail - - - - you study hard.

- A) by
- B) of
- C) up
- D) if

2. - - - - we arrived at the airport, it was too late.

- A) By the time
- B) As soon as
- C) As long as
- D) Until

3. - - - - I was walking down the street, I saw my friend.

- A) Where
- B) What
- C) When
- D) While

4. I spent my holiday in İstanbul - - - - I met famous designers.

- A) why
- B) where
- C) as long as
- D) whenever

5. I will be visiting the Pyramids - - - - .

- A) recently
- B) last week
- C) two months ago
- D) this time next week

6. Don't phone me at 8:00 pm. I'll be - - - - supper.

- A) had
- B) have
- C) having
- D) to have

7. She will have - - - - from the university by the year 2020.

- A) arrived
- B) graduated
- C) moved
- D) arrested

8. I - - - - my homework by the time you get back.

- A) finished
- B) am finishing
- C) will have finished
- D) had been finishing

9. - - - - I feel sleepy, I drink a cup of coffee.

- A) In order to
- B) Whenever
- C) So that
- D) Whatever

10. Rice is grown in Kastamonu - - - - farmers.

- A) for
- B) in
- C) by
- D) with

11. This book was - - - - in 1976.

- A) published
- B) watched
- C) played
- D) said

12. The windows are being - - - - by my mother.

- A) clean
- B) cleans
- C) cleaned
- D) cleaning

13. The tickets - - - - by my secretary tomorrow.

- A) will buy
- B) will be buying
- C) will be bought
- D) will have bought

14. Exam papers must be - - - - in 15 minutes.

- A) given
- B) watched
- C) decided
- D) bought

1. OTURUM

(502) ALMANCA – 8

1-16. sorularda boş bırakılan yere uygun gelen ek, kelime veya ifadeyi işaretleyiniz.

15. If you are ill, you ---- your doctor.

- A) have to see
- B) used to see
- C) had to see
- D) would see

16. If I were you, I ---- apologize to her.

- A) must
- B) can
- C) may
- D) would

17. If you had spoken more slowly, ----.

- A) you would have waited it
- B) I would have understood you
- C) they would have swum every day
- D) the meal would have tasted better

18. If you had eaten fruit and vegetables, ----.

- A) you would have arrived on time
- B) we would have seen the movie
- C) you would have been healthier
- D) we would sat in the garden

19. A: ---- ?

B: I will be studying English.

- A) What will you be doing this time tomorrow
- B) What time will you be studying English
- C) Where will you be studying English
- D) Who will you be with in the library

20. A: ---- ?

B: By Fatih Sultan Mehmet

- A) What is the book about
- B) Who was Istanbul conquered by
- C) Will you go to İstanbul by your car
- D) Did Fatih Sultan Mehmet conquer İstanbul

1. A: Möchtest du Tee ---- Kaffee?

B: Kaffee, bitte.

- A) oder
- B) aber
- C) weil
- D) denn

2. Alle Schüler ---- zehn Minuten vor der Prüfung im Klassenzimmer sein. (Mecburiyet)

- A) darf
- B) sollen
- C) will
- D) laufen

3. ---- drei Monaten habe ich Osman nicht gesehen.

- A) Bis
- B) Seit
- C) Bei
- D) Um

4. Mit ---- willst du tanzen?

- A) wie
- B) wer
- C) wen
- D) wem

5. Wäre ich ein Fußballspieler, ---- ich viel Geld verdienen. (Konjunktiv II)

- A) würde
- B) wäre
- C) war
- D) hätte

6. Ein Auto ----.

- A) fliegen
- B) sitzen
- C) laufen
- D) fahren

7. In einer Tanzschule ---- man tanzen lernen.

- A) können
- B) kann
- C) dürfen
- D) gekonnt

8. ---- Ali bei seinen Hausaufgaben geholfen.

- A) Ich bin
- B) Du bist
- C) Er ist
- D) Ich habe

9. Das Kind, ---- eine Mütze trägt, hat blonde Haare.

- A) der
- B) die
- C) das
- D) dass


10. Einen Tee ----.

- A) essen
- B) trinkt
- C) isst
- D) trinken

11. Wer ---- die Frage beantworten?

- A) können
- B) kannst
- C) kann
- D) gekonnt

12.



Wie spät ist es?

Es ist ----.

- A) zehn nach elf
- B) zwanzig vor elf
- C) zehn vor elf
- D) zwanzig nach elf

13. Ihr ---- nicht viel Kaffee trinken.

- A) sollen
- B) soll
- C) sollt
- D) sollst

14. ---- soll Sport treiben, um gesund zu bleiben.

- A) Man
- B) Ist
- C) Ihm
- D) Ihr

15. kommen, ----, gekommen

- A) kommt
- B) kommst
- C) komme
- D) kam

16. Wenn ich Urlaub hätte, ---- ich nach London fliegen.

- A) wäre
- B) wird
- C) würde
- D) würdest

1. OTURUM

17. Aşağıdakilerden hangisi ayrılabilen fiildir?

- A) aufpassen B) gesund
C) entwickeln D) bewerten

18. Aşağıdakilerden hangisi sıfattır?

- A) trinken B) rund
C) schneiden D) kaufen

19.



Wie heißt der Beruf?

- A) Polizist B) Lehrer
C) Soldat D) Fahrer

20. Kurallı bir cümle oluşturunuz.

Karin - Zähne - jeden Abend -
1 2 3

ihre - putzt
4 5

- A) 1 / 5 / 3 / 4 / 2
B) 1 / 2 / 3 / 4 / 5
C) 5 / 2 / 1 / 3 / 4
D) 5 / 3 / 4 / 2 / 1

(502) FRANSIZCA – 8

1 - 18. sorularda boş bırakılan yere uygun gelen kelime veya ifadeyi işaretleyiniz.

1. Hier soir, - - - - est rentré à cinq heures du matin.

- A) il B) je (j')
C) elle D) tu

2. Avant de sortir, - - - - votre manteau!

- A) croyons B) parlons
C) mettez D) éteignez

3. Ce soir, on va au cinéma. N'oublie pas de (d') - - - - cinq tickets!

- A) continuer B) venir
C) porter D) acheter

4. Le café - - - - à 23 heures.

- A) mange B) ferme
C) cherche D) bois

5. Ma mère a vu le film Titanic - - - - elle trouve super.

- A) où B) dont
C) que (qu') D) qui

6. A : Qu'est-ce que tu prends comme boisson ?

B : Je prends - - - - .

- A) du jus d'orange
B) des pommes de terre
C) du beurre
D) un gâteau au chocolat

7. A : Aykut téléphone souvent à - - - - ?

B : Oui, il leur téléphone souvent.

- A) sa cousine B) sa mère
C) son fils D) ses parents

8. A : Et toi, tu ne prends pas d'omelette ?

B : Si, mais je peux - - - - manger deux fois par semaine.

- A) lui B) en C) y D) les

9. Les Turcs boivent 25 litres de lait - - - - personne - - - - an.

- A) en / en B) dans / en
C) en / dans D) par / par

10. Je ne suis jamais allé au Canada mais mon frère - - - - habite.

- A) le B) y C) en D) par

11. Pierre a rendez-vous à 11 heures. Il est 11h 20. Et il est encore chez lui.

Il est - - - - .

- A) à midi B) en avance
C) en retard D) à l'heure

12. Il a cassé les verres - - - - sa maladresse.

- A) à cause de B) pourquoi
C) parce que D) grâce à

13. Pour grossir, il faut - - - - .

- A) manger beaucoup
B) faire du sport
C) perdre du kilo
D) marcher

14. - - - - ils iront en vacances en Espagne.

- A) Hier
B) L'été prochain
C) Avant-hier
D) Lundi dernier

15. A : Tu viens à mon anniversaire? B : - - - - .

- A) S'il a soif, il veut boire du lait
B) S'il a faim, il mange de la salade
C) Si je vais mieux, je veux venir
D) S'il y a un bon film, je veux aller

16. Hakan n'a pas fait ses devoirs, car - - - - un film d'action à la télé.

- A) c'était
B) il faisait froid
C) il faisait chaud
D) il y avait

17. Tu peux conduire mais il faut être - - - - .

- A) attentif B) hypocrite
C) longue D) nouveau

1. OTURUM

18. Pierre : Sylvie, je n'ai plus de viande, tu peux aller - - - ?
Charlotte : D'accord, il faut autre chose ?
Pierre : Oui, du poulet pour demain.

- A) à l'hôtel
B) à la boulangerie
C) à la librairie
D) à la boucherie

19-20. sorularda verilen resme göre cümlede boş bırakılan kısmı tamamlayan sözcük ya da ifadenin bulunduğu seçeneği işaretleyiniz.

19.



M. Germain est - - - - qui n'a pas d'enfant.

- A) une vieille femme
B) un jeune homme
C) une fausse amie
D) un vieil homme

20.



Quand il fait beau, - - - - .

- A) elle va aux magasins avec ses amis
B) ils se promènent toujours dans la forêt
C) elle promène son bébé dans le parc
D) ils vont à la plage avec leur chien

(533) HZ. MUHAMMED'İN HAY. – 3

1. Aşağıdakilerden hangisi Hz. Muhammed'in çocuklarından biri değildir?

- A) Şeyma
B) Rukiye
C) Zeynep
D) Ümmü Gülsüm

2. Aşağıdakilerden hangisi Müslümanların müşriklerle yaptığı savaşlardan biri değildir?

- A) Bedir Savaşı
B) Uhud Savaşı
C) Hendek Savaşı
D) Mute Savaşı

3. İslam öncesi, Mekke toplumunda Hz. İbrahim'in dini geleneğini devam ettirenler aşağıdakilerden hangisidir?

- A) Putperestler
B) Mecusiler
C) Hristiyanlar
D) Hanifler

4. Aşağıdakilerden hangisi "Cahiliye Dönemi'nin" genel özelliklerinden biri değildir?

- A) Putperestlik inancı yaygındı.
B) Kadın hakları ihlal edilirdi.
C) Bireysel düşünceye önem verilirdi.
D) Okur - yazarlık oranı oldukça düşüktü.

5. "İki nimet vardır ki insanların çoğu bunlardan habersizdir. Bunlar; - - - - , - - - - .

Bu hadiste boş bırakılan yere aşağıdakilerden hangisi gelmelidir?

- A) sağlık ve boş vakit
B) iman ve ibadet
C) mal ve para
D) bilgi ve amel

6. Aşağıdakilerden hangisi hicret esnasında Peygamberimiz'e yol arkadaşlığı yapmıştır?

- A) Hz. Ali
B) Hz. Ömer
C) Hz. Ebu Bekir
D) Hz. Osman

7. Mekke'den Medine'ye hicret eden Müslümanlara ne denir?

- A) Ensar B) Suffe
C) Sahabe D) Muhacir

8. Aşağıdakilerden hangisi hasta ziyaretinde dikkat edilmesi gereken hususlardan biri değildir?

- A) Sabrı tavsiye etmek
B) Ziyareti uzun tutmak
C) Moral ve umut vermek
D) İyileşmesi için dua etmek

9. "Dostunu severken ölçülü sev, günün birinde senin düşmanın olabilir. Düşmanına da ölçülü davran çünkü günün birinde senin dostun olabilir."

(Hadisi Şerif)

Bu hadistedeki ana düşünce aşağıdakilerden hangisidir?

- A) Duygular zamanla değişebilir.
B) Düşmanlıkta aşırılığa gidilmemelidir.
C) Sevgi gönülden olmalıdır.
D) Sevgi ve nefrette dengeli olunmalıdır.

10. Hz. Muhammed (sav.)'in babası aşağıdakilerden hangisidir?

- A) Abdulmuttalip
B) Abdullah
C) Ebu Talip
D) Haşim

11. Hz. Muhammed (sav.), peygamberliğini ilan ettikten sonra, müşrikler, O'na farklı ithamlarda bulunmuşlardır.

Aşağıdakilerden hangisi bunlardan biri değildir?

- A) Şair B) Sihirbaz
C) Yalancı D) Kâhin

1. OTURUM

12. İslam'a davetin gizli yapılmasını sonlandıran ayet aşağıdaki-lerden hangisidir?

- A) "Yaratan Rabb'inin adıyla oku!"
(Alak suresi, 1. ayet)
B) "Ben cinleri ve insanları, ancak bana kulluk etsinler diye yarattım."
(Zâriyat suresi, 56. ayet)
C) "(Ey Muhammed) Sana emrolunanı açıkça bildir ve Allah'a ortak koşanlara aldırış etme."
(Hicr suresi, 94. ayet)
D) "Artık insan, kendi kendinin şahididir."
(Kiyâmet suresi, 14. ayet)

13. Peygamberimiz, İslam'ı tebliğ etmek için aşağıdaki yerlerden hangisine gitmiştir?

- A) Taif
B) Şam
C) Yemen
D) Habeşistan

14. Peygamberimiz zamanında müşrikler tarafından ilk şehit edilen sahabe aşağıdakilerden hangisidir?

- A) Hz. Bilâl
B) Hz. Zeyd
C) Hz. Yasir
D) Hz. Osman

15. Peygamberimiz vefat ettiğinde, cenazesini yıkayıp kefenleyen sahabe aşağıdakilerden hangisidir?

- A) Hz. Ömer
B) Hz. Osman
C) Hz. Ebubekir
D) Hz. Ali

16. Aşağıdaki bilgilerden hangisi yanlıştır?

- A) Peygamberimizin kabri Medine'dedir.
B) Peygamberimiz 620 yılında hicret etmiştir.
C) Peygamberimiz ilk Cuma namazını Ranuna Vadisi'nde kıldırıştır.
D) Peygamberimiz, Akabe Biatları'nı Mekke döneminde yapmıştır.

17. Başkalarının sahip olduğu mal, makam ve ilim gibi kıymetleri kaybetmesini ve bu kişilerin zelil duruma düşmesini istemeye ne ad verilir?

- A) Kibir
B) Haset
C) Gıpta
D) Empati

18. Aşağıdakilerden hangisi İslam öncesi Arap toplumunda görülen güzel hasletlerden biri değildir?

- A) Eşitlik
B) Cömertlik
C) Ahde Vefa
D) Misafirperverlik

19. Aşağıdaki hadislerden hangisi konu yönüyle diğerlerinden farklıdır?

- A) İnsanın duaları içinde Allah'ın en sevdiği şey, sağlıklı olma isteğidir.
B) İki nimet vardır ki insanların çoğu bunlardan habersizdir. Bunlar sağlık ve boş vakittir.
C) Söz ve davranışlarında ileri gidip haddi aşanlar helak oldular.
D) Allah'tan mağfiret ve sağlık dileyin. Çünkü bir kimseye imandan sonra sağlıktan daha hayırlı bir şey verilmemiştir.

20. Müslümanlar ile Mekkeli müşriklerin yaptıkları savaşlar hangi seçenekte sırasıyla verilmiştir?

- A) Bedir-Uhud-Hendek
B) Uhud-Hendek-Bedir
C) Hendek-Bedir-Uhud
D) Bedir-Hendek-Uhud

(534) HZ. MUHAMMED'İN HAY. – 4

1. Hz. Peygamber geceleri namaz kılarak kible tarafında uyuyan Hz. Aişe'yi uyandırmamaya özen gösterirdi. Sefere çıkarken en son Hz. Fatıma ile vedalaşır ve dönerken de önce onun evine gidip hal hatırını sorardı.

Bu metinden Hz. Peygamber ile ilgili aşağıdaki sonuçlardan hangisi çıkarılamaz?

- A) Aile fertlerine değer verdiği
B) Özel yaşamın gizliliğine saygı duyduğu
C) İbadet ederken başkalarını rahatsız etmediği
D) Aile bireylerinin durumlarıyla yakından ilgilendiği

2. Aşağıdakilerden hangisi Hz. Muhammed (sav.)'in, Müslümanların ekonomik özgürlüklerini elde etmesi amacıyla yaptığı faaliyetlerden biridir?

- A) Suffe'yi yaptırması.
B) Medine pazarını kurması.
C) Hılfu'l-Fudul'a katılması.
D) Medine Sözleşmesi'ni imzalaması.

3. İnanç ve ibadet özgürlüğünü benimseyen bir kimseden aşağıdakilerden hangisi beklenir?

- A) İnanıcı sebebiyle başkasını kınaması
B) Kişilerin ibadetine engel olması
C) Başkalarını din seçmeye zorlaması
D) Başkalarının kişisel tercihine saygı duyması

4. Dinimiz, eşlerin birbirine karşı davranışlarında aşağıdakilerden hangisini tavsiye etmez?

- A) Bencilik
B) Gülüryüz
C) Nezaket
D) Fedakarlık

1. OTURUM

5. İslam dini yönetimde aşağıdakilerden hangisini ön planda tutar?

- A) Kişisel istekleri
- B) Eğitim ve öğretimi
- C) Ehliyet ve liyakatı
- D) Dostluk ve akrabalığı

6. "Eğer inanmayıp yüz çevirirlerse bilsinler ki biz seni onların üzerine bekçi olarak göndermedik. Sana düşen sadece tebliğdir."

(Şûra Suresi, 48. ayet)

Bu ayette Hz. Muhammed (sav.)'in hangi yönüne işaret edilmektedir?

- A) Uyarma
- B) Sabır
- C) Cesaret
- D) Merhamet

7. Peygamberimiz cahiliye toplumunda var olan, kadına yönelik bütün olumsuz anlayışları ortadan kaldırmıştır. İslam toplumunda kadınlar, sosyal hayatta aktif olarak yer almıştır.

Bu metindeki ana düşünce aşağıdakilerden hangisidir?

- A) Toplumsal kalkınma
- B) Kadına verilen değer
- C) Bireysel özgürlükler
- D) Örf ve adetlerin önemi

8. Aşağıdakilerden hangisi aile içi anlaşmazlığın önlenmesinde etkilidir?

- A) Engel olma
- B) İhmal etme
- C) Değer verme
- D) Duyarsız davranma

9. Hz. Muhammed (sav.) gönderdiği orduya; "Yalnızca savaşçı olanlarla savaşmalarını, yaşlılara, çocuklara, kendilerini ibadete vermiş ruhbanlara ve hayvanlara dokunmamalarını, özellikle de ağaçları yakmamalarını" emretmiştir.

Bu metinde Hz. Muhammed (sav.) aşağıdakilerden hangisine değinmemiştir?

- A) Yaşama hakkına
- B) İbadet hürriyetine
- C) Doğayı korumaya
- D) Ekonomik özgürlüğe

10. Aşağıdakilerden hangisi Hz. Muhammed (sav.)'in kadınlarla ilgili tutumları arasında yer almaz?

- A) Kadınların mescide gelmesini hoş karşılamazdı.
- B) Kadınları ilim öğrenmeye teşvik ederdi.
- C) Kadınların fikirlerinden yararlanırdı.
- D) Kadının, isteği dışında evlendirilmesine karşıydı.

11. Hz. Muhammed (sav.), aşağıdaki olaylardan hangisiyle farklı inanç gruplarının hak ve özgürlüklerini güvence altına almıştır?

- A) Veda Hutbesi
- B) Kâbe Hakemliği
- C) Medine Sözleşmesi
- D) Hudeybiye Antlaşması

12. İslam dinine göre aşağıdakilerden hangisi özgürlük olarak değerlendirilemez?

- A) Çocukları zararlı alışkanlıklara teşvik etmek
- B) Gençlerin meslek seçimlerine rehberlik etmek
- C) Farklı inançlara sahip insanların ibadetlerini engellemek
- D) Kendisi gibi düşünmeyen insanların fikirlerine saygı göstermek

13. "Müslüman bir kimse din kardeşinin pazarlığı üzerine pazarlık yapmasın."

Aşağıdakilerden hangisi bu hadise uygun davranılmaması durumunda ortaya çıkacak durumlardan biri değildir?

- A) Kin
- B) Düşmanlık
- C) Cömertlik
- D) Kıskançlık

14. "... İş konusunda istişare et. Karar verdin mi de artık Allah'a güven. Allah kendisine güvenenleri sever."

(Al-i imran suresi, 159. ayet)

Bu ayette Hz. Peygamberden aşağıdakilerden hangisi istenmektedir?

- A) Adaletli olma
- B) Affedici olma
- C) Hoşgörülü davranma
- D) Farklı görüşlere başvurma

15. Ebu Zer, Peygamberimizden kendisini yönetici olarak atamasını isteyince Peygamberimiz Ebu Zer'e şöyle dedi: "Ben, seni idarecilik için zayıf görüyorum. Ben, kendim için sevip istediğimi senin için de sevip isterim. Ama yöneticilik bir emanettir. Bu emanetin hakkını veremeyenler kıyamette zillet ve pişmanlığa uğrarlar. Ancak onu hakkıyla elde edip kendine düşen sorumluluğu yerine getiren kimse, bunun dışındadır."

Bu olayda aşağıdakilerden hangisi vurgulanmıştır?

- A) İdareciliğin gelip geçici olduğu
- B) Yöneticilikte liyakatin önemli olduğu
- C) Herkesin idarecilik yapma hakkına sahip olduğu
- D) Kendisi için istenenin arkadaşı için de istenmesi gerektiği

16. "Allah'a yemin ederim ki siz iyiliği emretmez ve kötülükten sakındırmazsanız, yaptıklarınızın karşılığı olarak Allah sizi (büyük sıkıntılarla) cezalandırır. Sonra toplum olarak onlardan kurtulmak için Allah'a yalvarıp durursunuz ancak duanız kabul olmaz."

Bu hadisten çıkarılacak en kapsamlı sonuç aşağıdakilerden hangisidir?

- A) Ölmeden önce tövbe edilmelidir.
- B) Allah, insanları büyük sıkıntılarla imtihan eder.
- C) Duaların kabulü için büyük sıkıntılar yaşanmalıdır.
- D) İyilik teşvik edilmeli ve kötülükten sakındırılmalıdır.

17. Medine Sözleşmesi ile ilgili aşağıdaki bilgilerden hangisi yanlıştır?

- A) Hicretten üç yıl sonra imzalanmıştır.
- B) İnanç ve ibadet özgürlüğünü savunur.
- C) Farklı inanç gruplarıyla yapılan ilk sözleşmedir.
- D) Müslümanlar, Yahudiler ve Hristiyanların ortaklaşa imzaladıkları bir sözleşmedir.

1. OTURUM

(608) DEMOKRASİ ve İNS. HAK. – 2

18. • Peygamberimiz ilk vahyi öncelikli olarak eşi Hz. Hatice ile paylaşmıştı.
• Peygamberimiz kızı Fatma'yı evlendirmeden önce onun görüşünü almıştı.
• Peygamberimiz Medine döneminde Hz. Ayşe ile yarış yapmıştı.

Peygamberimiz ile ilgili bu bilgilerden çıkarılacak en kapsamlı sonuç aşağıdakilerden hangisidir?

- A) İlk eşi Hz. Hatice'dir.
B) Spor yapmayı tavsiye etmiştir.
C) Kızı Fatma'yı rızasını alarak evlendirmiştir.
D) Kadınlara zaman ayırmış ve onların görüşlerine değer vermiştir.

19. "Muhakkak ki Allah, adaleti, iyiliği, akrabaya yardım etmeyi emreder; çirkin işleri, fenalık ve azgınlığı da yasaklar. O, düşünüp tutasınız diye size öğüt verir."

(Nahl suresi, 90. ayet)

Bu ayette aşağıdakilerden hangisine değinilmemiştir?

- A) Yakınları gözetmeye
B) Namazı vaktinde kılmaya
C) Kötülüklerden uzak durmaya
D) Hak ve hukuka uygun davranmaya

20. • Peygamberimiz kendisini ziyarete gelen Hristiyan heyetinin mescitte ibadet etmelerine izin vermesi
• Peygamberimizin, Yahudi birisinin cenazesinin geçişi sırasında ayağa kalkması
• Peygamberimizin Bedir Savaşı öncesinde sahabenin görüşünü benimsemesi

Bu bilgilerden Peygamberimiz hakkında çıkarılacak en kapsamlı sonuç aşağıdakilerden hangisidir?

- A) Bedir Savaşı'na katılmıştır.
B) Cenazeler karşısında hüznülmü olmuştur.
C) İnanç ve düşünce özgürlüğüne önem vermiştir.
D) İbadet etmek isteyenlere karşı hoşgörülü davranmıştır.

1. **Din, mezhep, etnik köken, asalet, servet, makam vb. gözetilmeksizin kişilerin yasalar karşısında farklı muamele görmemesi aşağıdaki kavramlardan hangisiyle ifade edilir?**

- A) Hak
B) Eşitlik
C) Ödev
D) Özgürlük

2. I. Hümanizm düşüncesi
II. Doğal haklar anlayışı
III. Kuvvetler ayrılığı prensibi

Yukarıdakilerden hangileri insan hakları düşüncesinin gelişmesinde etkili olmuştur?

- A) I ve II
B) I ve III
C) II ve III
D) I, II ve III

3. **Aşağıdakilerden hangisi kişinin devlet yönetimine katılmasını sağlayan haklardandır?**

- A) Seçme ve seçilme hakkı
B) Kişi dokunulmazlığı hakkı
C) Eğitim ve öğrenim hakkı
D) Dinlenme hakkı

4. **Modern devlette devletin örgütlenmesi aşağıdakilerden hangisiyle gerçekleşir?**

- A) Gelenekler
B) Görenekler
C) Pozitif hukuk
D) Töreler

5. • Kanun önünde eşitlik
• Mahkemelerin bağımsızlığı
• İdarenin yargısal denetimi

Verilenler öncelikle aşağıdakilerden hangisinin gereğidir?

- A) Hukuk devletinin
B) Polis devletinin
C) Sosyal devletin
D) Laik devletin

6. **"Kuvvetler ayrımı" kavramının açıklaması aşağıdakilerden hangisidir?**

- A) Vatandaşlarına hukuki güvenceler sağlayan devlet sistemi
B) İnsan haklarına saygılı olma, kişi hak ve özgürlüklerini koruma
C) Yasama, yürütme, yargı organlarının birbirinden bağımsız olması
D) Kişilerin yasalar karşısında eşit muamele görmesi

7. **Aşağıdakilerden hangisi TBMM'nin idare üzerindeki denetim yollarından biri değildir?**

- A) Meclis araştırması
B) Özel görüşme
C) Gensoru
D) Soru

8. **Kelime anlamı "halk iktidarı" olan sözcük aşağıdakilerden hangisidir?**

- A) Demokrasi
B) Hümanizm
C) Rönesans
D) İmparatorluk

9. **Çağdaş toplumlarda halkın doğrudan ülke yönetimine katılması mümkün olmadığından vatandaşların, seçimler yoluyla ve seçilen milletvekilleri aracılığıyla ülke yönetimine belli ölçüde katılmaları sağlanır.**

Yapılan açıklama aşağıdakilerden hangisiyle ilgilidir?

- A) Çoğulculuk
B) Temsili demokrasi
C) Hukukun üstünlüğü
D) Bireysel özgürlük

10. **Aşağıdakilerden hangisi siyasi partilerin işlevlerinden biri değildir?**

- A) Ülkeyi yönetecek lider kadroları eğitmek
B) İktidarı eleştirmek ve denetlemek
C) Halk ile iktidar arasında aracılık yapmak
D) Beklentileri gerçekleştirilmeyen çevrelerdeki huzursuzluğu artırmak

1. OTURUM

11. Aşağıdakilerden hangisi demokrasinin ilkelerinden değildir?

- A) Hukukun üstünlüğü
- B) Kültürel tekelcilik
- C) Seçimler ve temsil
- D) Çoğulculuk ve katılım

12. Padişahın yetkilerini tek taraflı olarak kısıtlayacağına dair söz veren, Müslümanlarla gayrimüslimlere eşit haklar sağlayan, 1839'da Abdülmecit zamanında hazırlanan belge aşağıdakilerden hangisidir?

- A) Nizam-ı Cedit
- B) Sened-i İttifak
- C) Islahat Fermanı
- D) Gülhane Hattı Hümayunu

13. Toplumumuzda kadın erkek eşitliğini sağlayacak düzenlemeler yapan kanunların varlığına rağmen kadın erkek eşitsizliği görülmeye devam etmektedir.

Bu durum insan haklarının gerçekleştirilmesinde karşılaşılan aşağıdaki sorunların öncelikle hangisinden kaynaklanmaktadır?

- A) Devletin ekonomik imkanlarının yetersiz olması
- B) Yöneticilerin kendi güçlerini arttırmak istemeleri
- C) Toplumda yanlış töre ve geleneklerin devam etmesi
- D) Kamu düzeni ve temel haklar arasındaki dengenin kurulamaması

14. Aşağıdakilerden hangisi Birleşmiş Milletler Örgütü bünyesinde yer almaz?

- A) Avrupa Birliği
- B) İnsan Hakları Komitesi
- C) İşkenceye Karşı Komite
- D) Irk Ayrımcılığının Kaldırılması Komitesi

15. Aşağıda verilen Avrupa İnsan Hakları Mahkemesiyle ilgili bilgilerden hangisi doğrudur?

- A) Mahkemeye başvuru için hiçbir şart yoktur.
- B) Aday devletlerden seçilen yargıçlar görev alır.
- C) Mahkemenin yaptırımını tazminat ödenmesi şeklindedir.
- D) İç hukuk yolları tüketilmeden de mahkemeye başvuru yapılabilir.

16. Aşağıdakilerden hangisi insan haklarını korumak için faaliyet gösteren uluslararası sivil toplum örgütlerinden biridir?

- A) Avrupa Birliği
- B) Avrupa Konseyi
- C) Uluslararası Af Örgütü
- D) Avrupa İnsan Hakları Mahkemesi

17. Aşağıdakilerden hangisi insan haklarının korunmasına engel oluşturur?

- A) Savaşlar
- B) Terörle uluslararası düzeyde mücadele edilmesi
- C) Bölgeler arası kalkınmışlık farklarının giderilmesi
- D) Hızlı toplumsal değişimin olumsuz etkilerinin önlenmesi

18. Auguste Comte'a göre, insanların olayları gerçeküstü bir takım olgularla açıklamaya çalıştıkları, her şeyde büyü, tılsımlı bir taraf gördükleri evre aşağıdakilerden hangisidir?

- A) Teknolojik evre
- B) Teolojik evre
- C) Pozitif evre
- D) Metafizik evre

19. "Bir ülkede, belli bir dönemde geçerli olan kuralların zorla ve köklü bir değişikliğe tabi tutularak yerine yenilerinin getirilmesi" hangi kavramla ifade edilir?

- A) Reform
- B) Devrim
- C) Çağdaşlaşma
- D) Aydınlanma

20. I. Başkasına zarar veren düşünce ve davranışların özgürlük olamayacağı
II. Düşünce ve vicdan hürriyetinin engellenmesi
III. Egemenliğin halka ait olması
IV. Baskıcı yönetim anlayışı

Yukarıda verilenlerden hangileri Atatürk'ün demokrasi ve insan hakları konusundaki görüşlerindedir?

- A) I ve II
- B) II ve III
- C) II ve IV
- D) I ve III

(611) KARŞ. DİN. TAR. – 1

1. Aşağıdaki dinlerden hangisi Çin ve Japon dinleri arasında yer almaz?

- A) Konfüçyanizm
- B) Şintoizm
- C) Caynizm
- D) Taoizm

2. Aşağıdaki dinlerin hangisinde "kuruca" nun isminden bahsedilmez?

- A) Zerdüştlük
- B) Şintoizm
- C) Sihizm
- D) Caynizm

3. Din ve mitoloji ile ilgili verilen bilgilerden hangisi yanlıştır?

- A) Dinin kaynağı Tanrı, mitolojininki ise insandır.
- B) Dinin hukuki bağlayıcılığı vardır, mitolojinin yoktur.
- C) Dinin Tanrısı somut, mitolojininki ise soyuttur.
- D) Mitoloji inanç ve tapınma noktasına geldiğinde dine zarar verir.

4. Yahudi inancına göre "İlk Yahudi" aşağıdakilerden hangisidir?

- A) Hz. İbrahim
- B) Hz. Yakup
- C) Hz. İshak
- D) Hz. İsmail

5. Aşağıdakilerden hangisi Yahudiliğin temel özelliklerinden biri değildir?

- A) Mabet
- B) Misyonerlik
- C) Kutsal Toprak
- D) Seçilmişlik

1. OTURUM

6. Aşağıdakilerden hangisi Hristiyan mezheplerinden biri değildir?

- A) Katolik B) Ortodoks
C) Reformist D) Protestan

7. Hristiyanların ekmek ve şarapla yaptıkları ayin aşağıdakilerden hangisidir?

- A) Vaftiz
B) Evharistiya
C) Son Yağlama
D) Günah İtirafı

8. İslam mabetlerinde kişi veya varlıkların resim ve heykellerine rastlanmaz.

Bunun asıl sebebi aşağıdakilerden hangisidir?

- A) İslam'da akla ve bilime verilen önem
B) Resim ve heykel sanatının İslam coğrafyasında gelişmemiş olması
C) İslam'ın tövbe ve bağışlanmayı kul ile Allah arasında bir ilişki olarak görmesi
D) İslam'ın, putperestlik ve şirke götüreceği her türlü yolu engellemesi

9. • Kurucusu Siddharta Gautama'dır.
• Hinduizmin, Brahman şekilciliği ve kast taassubuna karşı bir harekettir.
• İzdırabın kaynağı olan arzu ve ihtiraslardan kurtulmak "Sekiz dilimli yol'u" izlemekle mümkündür.

Hakkında bilgi verilen din hangisidir?

- A) Budizm B) Sihizm
C) Caynizm D) Taoizm

10. "Din, akıl sahibi şuurlu insanları kendi irade ve arzularıyla hayırlı olan şeylere sevkeden ilahi bir kanundur."

İslam alimlerinin bu tanımına göre din ile ilgili aşağıdakilerden hangisi söylenemez?

- A) İlahi kaynaklıdır.
B) İnsanları kötü işlere sevketmez.
C) Din seçiminde kişilere baskı yapılamaz.
D) Bireyin iç dünyasında yaşaması yeterli olan bir duygudur.

11. Karşılaştırmalı Dinler Tarihi bilimiyle alakalı olarak aşağıda verilen bilgilerden hangisi yanlıştır?

- A) Herhangi bir dinin savunmasını yapmaz.
B) Dinleri hak-batıl şeklinde ayırarak inceler.
C) Dinlerin, inanç, ibadet ve ahlak sistemlerini inceler.
D) Dinlerin doğuşlarını ve gelişmelerini inceler.

12. Karşılaştırmalı Dinler Tarihi alanında yazılmış aşağıdaki eserlerden hangisi Biruni'ye aittir?

- A) Kitab'ut Tahkik Mali'l-Hint
B) Dinler Tarihine Giriş
C) Tarih'i Eryan
D) Dinler Tarihi

13. Evrimci görüşü savunanlar aşağıdaki inançlardan hangisini dinin kaynağı olarak göstermemişlerdir?

- A) Atalar kültü B) Animizm
C) Totemizm D) Monoteizm

14. Kutsal bir hikâyenin anlatımıdır. Konusunu olup bitmiş gerçek olaylardan alır. Olmuş olayları mecazî bir dil ve semboller kullanarak insanların anlayabileceği şekilde anlatır.

Hakkında bilgi verilen kavram aşağıdakilerden hangisidir?

- A) Mitos B) Masal
C) Efsane D) Destan

15. Aşağıdakilerden hangisi Yahudilik ve İslam dininin ortak özelliklerinden biri değildir?

- A) İbadethanelerinde resim bulunmaması
B) Kutsal günlerde çalışılmaması
C) Domuz etinin haram olması
D) Sünnet olmak

16. Hristiyanlığa; teslis, evharistiya ve ilk günah tasavvuru gibi fikirleri aşağıdakilerden hangisi getirmiştir?

- A) Pavlus B) Petrus
C) Barnaba D) Yuhanna

17. Kur'an-ı Kerim'de Hristiyanların en çok eleştirildiği konu aşağıdakilerden hangisidir?

- A) Hz. Meryem'e bakış
B) Sünnet olmama
C) İlk günah
D) Teslis

18. Aşağıdaki ibadetlerden hangisinin yapılabilmesi için belirli bir yer (mekan) şartı vardır?

- A) Namaz B) Oruç
C) Hac D) Zekat

19. Dinler tarihinin konusu aşağıdakilerden hangisinde tam olarak verilmiştir?

- A) İslam dini
B) İlahi dinler
C) Geçmişte yaşamış dinler
D) Geçmişte ve günümüzde var olan tüm dinler

20. Zerdüştlük aşağıdaki ülkelerin hangisinde ortaya çıkmıştır?

- A) Hindistan B) Japonya
C) İran D) Çin

1. OTURUM

(612) KARŞ. DİN. TAR. – 2

1. Müslümanların Safa ile Merve tepeleri arasında yedi defa gidip gelerek yerine getirdikleri hac görevine ne denir?

- A) Sa'y B) Tavaf
C) İhram D) Vakfe

2. Eski Türklerde dini ayin ve törenleri yönetenlere ne isim verilirdi?

- A) Dinka B) Guru
C) Kam D) Sangha

3. Budistlere ait olan mabed aşağıdakilerden hangisidir?

- A) Pagoda B) Sinagog
C) Gurdvara D) Katedral

4. Türkiye'de yaşayan en kalabalık Hristiyan grup aşağıdakilerden hangisidir?

- A) Rumlar
B) Ermeniler
C) Süryaniler
D) Arap Ortodokslar

5. Ramazan Bayramı ve Kurban Bayramı aşağıdaki aylardan hangisinde kutlanır?

- A) Recep - Safer
B) Şevval - Zilhicce
C) Şaban - Muharrem
D) Ramazan - Zilkade

6. Aşağıdaki bayramlardan hangisi Hristiyanlara aittir?

- A) Fısıh B) Sukkot
C) Matcuri D) Paskalya

7. Aşağıdakilerden hangisi Yahudilerin hac mekanıdır?

- A) Efes B) Roma
C) Kudüs D) Antakya

8. Aşağıdaki dinlerin hangisi monoteist (tek tanrıcı) bir dindir?

- A) Sihizm B) Hinduizm
C) Budizm D) Şintoizm

9. İslam'ın insanlara ulaştırılmasına ne denir?

- A) Sünnet B) Vahiy
C) Tefsir D) Tebliğ

10. Aşağıdaki dinlerden hangisinde misyonerlik faaliyetleri dünya genelinde sistemli ve kurumsal bir şekilde yürütülmektedir?

- A) Konfüçyanizm
B) Hristiyanlık
C) Yahudilik
D) Hinduizm

11. Yahudilerin Tanrı hakkında aşağıda yer alan inanç ve düşüncelerinden hangisi İslam'ın Allah anlayışıyla uyuşmaz?

- A) Tanrı her şeyi yaratandır.
B) Tanrı dinlenir.
C) Tanrı ezeldir.
D) Tanrı birdir.

12. • Guru Nanak
• Altın Mabet
• Adi- Grant

Bu kavramlar aşağıdaki dinlerden hangisiyle ilgilidir?

- A) Caynizm B) Şintoizm
C) Sihizm D) Budizm

13. Aşağıdakilerin hangisi sadece manevi temizliktir?

- A) Elbiseyi temizlemek
B) Gusül abdesti almak
C) Namaz abdesti almak
D) Tövbe etmek

14. Misyonerlik teşkilatı ilk olarak aşağıdaki ülkelerin hangisinde kurulmuştur?

- A) İngiltere B) Almanya
C) Fransa D) İtalya

15. Yahudilik'te ibadetler aşağıdaki dillerden hangisiyle yapılır?

- A) Arapça - Farsça
B) İngilizce - Arapça
C) İngilizce - Latince
D) İbranice - Aramice

16. Kur'an-ı Kerim, Hz. İsa'nın doğumunu anlatırken hangi peygamberin yaratılışını örnek verir?

- A) Hz. Muhammed
B) Hz. İbrahim
C) Hz. Adem
D) Hz. Nuh

17. "Müslüman, Müslümanların elinden ve dilinden emin olduğu kimsedir."

Aşağıdakilerden hangisi bu hadis kapsamında değerlendirilemez?

- A) Yalandan kaçınmak
B) İncitici olmak
C) Edepli olmak
D) Şefkatli olmak

18. Aşağıdakilerden hangisi Hristiyanlığın ibadet yerlerinden biri değildir?

- A) Havra B) Kilise
C) Şapel D) Katedral

19. Yom Kippur (Tövbe ve Keffaret Günü) orucu aşağıdaki dinlerin hangisinde tutulur?

- A) Hristiyanlık B) Yahudilik
C) Hinduizm D) Zerdüştlük

20. Hinduizm'e tepki olarak ortaya çıkan din aşağıdakilerden hangisidir?

- A) Caynizm B) Şintoizm
C) Sihizm D) Budizm

1. OTURUM

(811) KELAM – 1

1. Aşağıdakilerden hangisi Kalam ilminin amaçları arasında yer almaz?

- A) İnanç esaslarını açıklamak
- B) İnananları taklitten kurtarmak
- C) İbadetlerin doğru yapılmasını sağlamak
- D) Eleştirilere karşı inanç esaslarını savunmak

2. Aşağıdakilerden hangisi kalam biliminin müteahhirin alimlerinden biri değildir?

- A) Bakıllani
- B) Cürcani
- C) Beydavi
- D) Taftazani

3. Aşağıdakilerden hangisi itikadi mezheplerden biri değildir?

- A) Mürci'e
- B) Eş'ariye
- C) Maturidiye
- D) Hanbelilik

4. • Sıffin Savaşı'ndaki hakem meselesinden dolayı fiilen ortaya çıkmıştır.
• İtikadi nitelikli ilk firkalaşma hareketidir.

Hakkında bilgi verilen itikadi mezhep aşağıdakilerden hangisidir?

- A) Mürcie
- B) Mutezile
- C) Şiilik
- D) Haricilik

5. Aşağıdakilerden hangisi Eş'ari mezhebine ait bir görüş değildir?

- A) Büyük günah işleyen kimse kafir olur.
- B) İnsanın fiilleri Allah tarafından yaratılmaktadır.
- C) Kur'an, Allah kelamı olup yaratılmamıştır.
- D) İman, bilgi ve kalp ile tasdikten ibarettir.

6. Kalbiyle tasdik etmediği halde dil ile inandığını söyleyen kimseye ne denir?

- A) Kafir
- B) Fasık
- C) Münafık
- D) Müşrik

7. Evren, içindeki her şeyle beraber mümkün bir varlıktır. Her mümkün kendisini var eden bir vacibe ihtiyaç duyar. Bu vacip varlığı zorunlu olan Allah'tır.

Bu metinde Alah'ın varlığı ile ilgili hangi delil açıklanmıştır?

- A) Hudus
- B) İmkan
- C) Kemal
- D) Gaye ve Nizam

8. "Allah evlat edinmemiştir; O'nunla beraber hiçbir tanrı da yoktur. Aksi takdirde her tanrı kendi yarattığını sevk ve idare eder ve mutlaka onlardan biri diğerine üstün gelirdi..."

(Mü'minun Suresi, 91. ayet)

Bu ayet Allah'ın varlığı ve birliği ile ilgili hangi delile örnek gösterilebilir?

- A) Temanu
- B) İmkan
- C) Hudus
- D) Kemal

9. Allah'ın zati sıfatlarından birisi olan "muhalefetü'n li'l-havadis" aşağıdakilerden hangisinde doğru açıklanmıştır?

- A) Varlığının kendinden olmasıdır.
- B) Varlığının sonunun olmamasıdır.
- C) Varlığının başlangıcı olmamasıdır.
- D) Sonradan yaratılan hiçbir şey benzememesidir.

10. Aşağıda verilen ayetlerden hangisi Allah'ın tekvin sıfatından söz etmektedir?

- A) "...Allah her şeyi iştir ve bilir." (Bakara Suresi, 256. ayet)
- B) "O, her an yaratma halindedir." (Rahman Suresi, 29. ayet)
- C) "...Şüphesiz Allah her şeye kadirdir." (Bakara Suresi, 148. ayet)
- D) "... O'nun benzeri hiçbir şey yoktur..." (Şûrâ Suresi, 11. ayet)

11. Kalam, mü'minleri taklidi imandan tahkiki imana ulaştırma arzusuyla, Cenab-ı Hakk'ın zat ve sıfatlarından, risalet ve nübüvvetten, mebde ve meâd itibarıyla kainatın hallerinden bahseden ilimdir.

Bu paragrafta kalam bilimiyle ilgili aşağıdakilerden hangisine yer verilmemiştir?

- A) Tanımı
- B) Konusuna
- C) Amacına
- D) Metoduna

12. Kalam alanında ilk eserleri hangi mezhebe mensup alimler vermiştir?

- A) Eş'ari
- B) Mutezile
- C) Maturidi
- D) Havariç

13. Hanefi mezhebinin ilk dönem içtihatlarında Irak örfünün, sonraki içtihatların da ise Maveraünnehir Bölgesi'nin izleri görülür.

Bu paragraf mezheplerin ortaya çıkışında etkili olan sebeplerden hangisine örnek oluşturur?

- A) İnsanın yapısı
- B) Siyasi sebepler
- C) Ortam ve kültür
- D) Kur'an'ın özelliği

14. Aşağıdaki mezheplerden hangisi Şii firkalar arasında yer almaz?

- A) Cebriye
- B) İmamiye
- C) İsmaliye
- D) Zeydiye

15. Büyük günah sahibi ne mü'min ne kafirdir. O, iki yer arasında bir yeredir.

Mutezile'nin bu görüşü aşağıdaki ilkelerden hangisinde dile getirilmiştir?

- A) Adalet
- B) el - Va'd ve'l - Vaid
- C) el - Menziletü Beyne'l Menzileteyn
- D) el - Emri bi'l Maruf ve'n - Nehyi anil Münker

1. OTURUM

(812) KELAM – 2

16. İnsanın; şeriat, tarikat, marifet ve hakikat kapılarından geçerek Allah'a ulaşacağını söyleyen mutasavvıf aşağıdakilerden hangisidir?

- A) Yunus Emre
- B) Hacı Bektaş Veli
- C) Hacı Bayram Veli
- D) Hoca Ahmet Yesevi

17. Aşağıdakilerden hangisi mü'minlerde olmaması gereken bir özelliktir?

- A) İffet
- B) Vakar
- C) Haset
- D) Vefa

18. Taklidi İman ile ilgili aşağıda verilen bilgilerden hangisi yanlıştır?

- A) Kişinin bilgi sahibi olmadan çevresinden görerek sahip olduğu imandır.
- B) Kişiyi araştırma ve inceleme yapmaya teşvik eder.
- C) Bireysel düşüncenin gelişmesine engel olur.
- D) Taassubu artırır.

19. "Ben mükemmel bir varlık olmadığım halde mükemmele ulaşma arzusunda'yım. Bu düşünce bana ancak mükemmel olan bir varlık tarafından gelmiş olmalıdır."

Bu şekilde düşünen bir kimse Allah'ın varlığının delillerinden hangisini dile getirmektedir?

- A) Kemal
- B) İmkan
- C) Hudus
- D) Temanu

20. "Yeryüzünde gezip bir bakmadılar mı, kendilerinden öncekilerin sonu nasıl olmuş? Halbuki onlar, bunlardan daha kuvvetliydi. Ne göklerde ve ne de yerde hiç bir şey Allah'ı aciz bırakamaz. Çünkü O her şeyi bilendir, her şeye gücü yetendir."

(Fâtır suresi, 44. ayet)

Bu ayette Allah'ın sıfatlarının hangilerinden bahsedilmektedir?

- A) Kıdem - Beka
- B) Semi - Beşar
- C) İlim - Kudret
- D) Kelam - Tekvin

1. Kur'an-ı Kerim, "ayet, âyât, bey-yine, delil ve delâil" kelimelerini aşağıdaki kavramlardan hangisinin yerine kullanmıştır?

- A) Keramet
- B) Mucize
- C) Sihir
- D) Büyü

2. İnsanların, yaptıklarının hesabını vermek üzere, ahirette toplandıkları yere ne denir?

- A) Mevt
- B) Mizan
- C) Maûn
- D) Mahşer

3. Peygamberlerin akıllı ve zeki oldukları anlamına gelen sıfat aşağıdakilerden hangisidir?

- A) Tebliğ
- B) Fetanet
- C) İsmet
- D) Emanet

4. Nihilizm'in Türkçe karşılığı aşağıdakilerden hangisidir?

- A) Hiççilik
- B) Gizemcilik
- C) Olguculuk
- D) Bilinmezlik

5. Allah'ın sonsuz ilmi ve kudretiyle başlangıçtan sona kadar evrende olacak her şeyi programlamasına, bilmesine ne denir?

- A) İrade
- B) Kader
- C) Kaza
- D) Mizan

6. Kur'an-ı Kerim hakkında aşağıdakilerden hangisi söylenemez?

- A) Peygamberimiz zamanında kitap hâline getirilmiştir.
- B) Bütün insanlığa gönderilmiştir.
- C) Kıyamete kadar bozulmayacaktır.
- D) Lafzen ve manen mucizedir.

7. "O (Allah) bir şeyi dilediği zaman sadece "ol" der..."
(Yasin Suresi, 82. ayet)

Bu ayette aşağıdaki kavramlardan hangisine işaret edilmiştir?

- A) Sorumluluk
- B) Cüz-i irade
- C) Tevekkül
- D) Külli irade

8. "Doğru ve hak olan İslam yoluna ulaşmak" ile "Hak'tan yüz çevirip batıla yönelmek" aşağıdakilerden hangisiyle ifade edilir?

- A) Hüsün - Kubuh
- B) Hayır - Şer
- C) Hidayet - Dalalet
- D) Tecsim - Teşbih

9. Aşağıdakilerden hangisi peygamberlerin gönderiliş sebeplerinden değildir?

- A) Eski inançları korumak
- B) Sorumlulukları bildirmek
- C) Allah'ın dinine çağırarak
- D) İbadetlerin nasıl yapılacağını öğretmek

10. Aşağıdakilerden hangisi Kelam ilminin ana konuları arasında yer almaz?

- A) Allah'ın varlığı ve birliği
- B) Öldükten sonra dirilme
- C) Peygamberlik ve sıfatları
- D) İbadetler ve esasları

11. Aşağıdakilerden hangisinde insanın emeğinin rolü yoktur?

- A) Meslek sahibi olmak
- B) Ahlaklı olmak
- C) Peygamber olmak
- D) Müslüman olmak

12. Aşağıdakilerden hangisi sadece Hz. Muhammed (sav.) için kullanılmaktadır?

- A) Beşir
- B) Nezir
- C) Şahit
- D) Hatemül Enbiya

1. OTURUM

13. Peygamberler haricinde bazı imamlarında "İsmet" sıfatına sahip olduğunu kabul eden mezhep aşağıdakilerden hangisidir?

- A) Şia B) Mürcie
C) Mütezile D) Maturidiye

14. Aşağıdakilerden hangisi ilahi kitapların gönderiliş nedenlerinden biri değildir?

- A) Allah'ın insana olan rahmeti
B) Dünya ve ahiret mutluluğunu sağlamak
C) Hak ve batıl kavramlarını öğretmek
D) İnsanın zengin olmasını sağlamak

15. Aşağıdakilerden hangisi İslam'ın tevekkül anlayışına uygun düşmez?

- A) Dua B) Çaba
C) Tembellik D) Teslimiyet

16. • Sezgi ve Tanrı'ya ve eşyanın özü ile ilgili bilgiye ulaşılabilir.
• Görünenlerin ardındaki gerçeği ruhi tecrübeyle varılır.
• Kimilerince tanrı ile birleşme sanatı olarak tanımlanır.

Hakkında bilgi verilen felsefi ekol aşağıdakilerden hangisidir?

- A) Deizm B) Politeizm
C) Mistisizm D) Agnostisizm

17. İnsanın hür iradeye sahip olduğunu kabul etmeyen mezhep aşağıdakilerden hangisidir?

- A) Eş'ariye B) Cebriye
C) Maturidiye D) Şia

18. Aşağıdakilerden hangisi insanın cüz'i iradesine bağlıdır?

- A) Doğumu B) Susaması
C) İbadeti D) Yaşlanması

19. "Ölü toprak kendileri için bir ayettir; biz onu dirilttik ondan taneler çıkarttık, böylelikle ondan yemektedirler."

(Yasin Suresi, 33. ayet)

Kur'an-ı Kerim'de yer alan bu tür ayetler aşağıdakilerden hangisine inanmaya delil olur?

- A) Meleklerle iman
B) Ahirete iman
C) Kitaplara iman
D) Peygamberlere iman

20. Aşağıdakilerden hangisi ahiret inancının ortaya çıkardığı dü-
şüncelerden biri değildir?

- A) Ölüm bir yok olma değildir.
B) Hayat bir amaca hizmet etmelidir.
C) İnsan sınırsız bir özgürlüğe sahiptir.
D) Er ya da geç hak eden hakkını elde edecektir.

(974) GİRİŞİMCİLİK – 1

1. Etkili denetimin ilkelerine aykırı bir açıklama hangi seçenekte verilmiştir?

- A) Denetleme gizli olmalıdır.
B) Denetleme esnek olmalıdır.
C) Denetleme şekli işletmeye uygun olmalıdır.
D) Denetlenme standartları önceden belirlenmelidir.

2. Aşağıda verilenlerden hangisi işletmenin özel amaçlarındandır?

- A) Kâr sağlamak
B) Toplumla hizmet etmek
C) Mal ve hizmetlerin kalitesini sürekli arttırmak
D) İşletmenin yaşamını devam ettirmek

3. Aşağıdakilerden hangisi planlamada uyulacak kural olarak görülmür?

- A) Uygun bir süreyi kapsamalıdır.
B) Kesin uygulanabilir olmalıdır.
C) Basit ve anlaşılır olmalıdır.
D) Dengeli olmalıdır.

4. Aşağıdakilerden hangisi talebin özelliklerinden biri değildir?

- A) Satın alma gücü
B) Piyasanın olması
C) Satın alma isteğinin var olması
D) Geniş bir zaman dönemini kapsamaması

5. Aşağıdakilerden hangisi bir işletmenin şirket olma şartlarına uygun değildir?

- A) Ortak bir amaç olmalıdır.
B) Ortaklar arası bir anlaşma olmalıdır.
C) Şirket kuranların sayısı en az bir olmalıdır.
D) Ortak üretim elemanlarına sahip olmalıdır.

6. Limitet şirketler en az kaç ortak tarafından kurulabilir?

- A) 2 B) 4 C) 6 D) 10

7. Aşağıdakilerden hangisi İktisadi Devlet Teşekkülü değildir?

- A) Boru Hatları ile Petrol Taşıma AŞ
B) Türkiye Kömür İşletmeleri
C) Türkiye Cumhuriyeti Devlet Demiryolları
D) Devlet Malzeme Ofisi

8. Bir işletmenin diğer işletmeye ait hisse senetlerini satın alarak o işletmenin hukuki varlığına son vermesiyle sağladığı tam birleşmeye ne ad verilir?

- A) Füzyon B) Merger
C) Kornerler D) Konsernerler

1. OTURUM

9. Satış sürecinin sunuş aşamasıyla ilgili verilen bilgilerden hangisi yanlıştır?

- A) Dikkat çekme
- B) İlginin isteğe dönüşmesi
- C) İsteğin arza dönüşmesi
- D) Satışın gerçekleştirilmesi

10. Seçici talebi yaratmaya yönelik bir reklam, aşağıda verilen reklam çeşitlerinden hangisi açısından değerlendirilmelidir?

- A) Reklam içeriği açısından
- B) Hedef kitle açısından
- C) Amaçlar açısından
- D) Yapanlar açısından

11. Ekonomik durumu üst düzeyde olan insanların karşılanmasını istedikleri ihtiyaçlara ne ad verilir?

- A) Emek
- B) Sermaye
- C) Lüks ihtiyaçlar
- D) Zorunlu ihtiyaçlar

12. Aşağıdakilerden hangisi üretim faktörlerinden biridir?

- A) Doğa
- B) Talep
- C) Hizmet
- D) Kültür

13. Ekonomistler kıt malı nasıl tanımlamışlardır?

- A) Kıymetli mallar
- B) Piyasada olmayan mallar
- C) Çok pahalı satılan mallar
- D) Fiyatı olan ve bedelini ödemek suretiyle alınabilen mallar

14. Ekonomistler, bir mal veya hizmeti elde edebilme isteğini neden talep olarak kabul etmezler?

- A) İstekler yeterli satın alma gücüyle desteklenmelidir.
- B) Arz - talep dengesi korunmalıdır.
- C) Alıcı ile satıcı birbirini tanımalıdır.
- D) Satın alma sürekli ve güdüleyici olmalıdır.

15. Elektronik ticarete ne ad verilir?

- A) İnternet
- B) E-ticaret
- C) E-devlet
- D) E-posta

16. Bazı bilim adamlarınca girişimcilik kavramının yaratıcısı olarak görülen ünlü ekonomist aşağıdakilerden hangisidir?

- A) John Law
- B) Eli Whitney
- C) Richard Cantillon
- D) Edward Harriman

17. "Girişimcilik; sürekli artan bir refah yaratan dinamik bir süreçtir."

"Girişimcilik; bir işe girişme, bunun için gerekli kaynakları düzenleme, işten doğacak riskleri ve başarısızlıkları üstlenme sürecidir."

"Girişimcilik; parasal ve kişisel tatmin ödülü karşılığında, finansal, psikolojik ve sosyal riskleri üstlenerek gerekli zaman ve çabayı harcayıp farklı değerlerde mal ve hizmet yaratma sürecidir."

Aşağıdakilerden hangisi, verilen "Girişimcilik" kavramıyla ilgili tanımların ortak noktalarından biri değildir?

- A) Tekelleşmek
- B) İnisiyatif sahibi olmak
- C) Risk ve başarısızlığı kabul etmek
- D) Piyasadaki kaynakları değerlendirmek

18. "Yasal teşviklerden yararlanarak arkadaşlarıyla pastane dükkanı açan Leyla Hanım" **örneğini, aşağıdaki girişimciliği teşvik eden faktörlerden hangisi için verebiliriz?**

- A) Mevzuat
- B) Güven
- C) Aile
- D) Din

19. Aşağıdakilerden hangisi girişimcide bulunması gereken kişisel özelliklerinden biri değildir?

- A) Hayalcilik
- B) Karamsarlık
- C) Kendine güven
- D) Esneklik

20. Aşağıdaki kavramlardan hangisi ekonomi literatüründe "yenilenme", "yenilik" anlamlarında kullanılır?

- A) Deflasyon
- B) İnovasyon
- C) İthal ikamesi
- D) Devalüasyon

**TEST BİTTİ.
CEVAPLARINIZI KONTROL EDİNİZ.**

SINAV SÜRESİNCE UYULACAK KURALLAR

- 1. Adaylar, sınav kurallarına ve salon görevlilerinin tüm uyarılarına uymak zorundadır. Kurallara ve uyarılara uymayan adayların sınavları geçersiz sayılacaktır.**
- 2. Sınav başladıktan sonra adayların salon görevlileri ve birbirleri ile konuşmaları; kalem, silgi vb. şeyleri istemeleri yasaktır.**
- 3. Adaylar sınav süresince, sınav giriş belgesi ile kimlik belgelerinden birini (nüfus cüzdanı, pasaport veya sürücü belgesi) masalarının üzerinde bulundurmamak zorundadır.**
- 4. Sınav evraklarını teslim etmeyen, soru kitapçıklarının sayfalarından bir kısmını eksik teslim edenlerin sınavları geçersiz sayılacaktır.**

SALON GÖREVLİLERİNCE SINAV BAŞLAMADAN ÖNCE ADAYLARA YAPILACAK SON UYARILAR

- Soracağınız bir şey varsa şimdi sorunuz, sınav başladıktan sonra sorularınıza cevap verilmeyecektir.
- Başlama zilini bekleyiniz.

Hepinize başarılar dileriz.

(Salon başkanı başlama ve bitiş saatini tahtaya yazacaktır.)

Bu kitapçığın her hakkı saklıdır. Hangi amaçla olursa olsun, kitapçığın tamamının veya bir kısmının Millî Eğitim Bakanlığı Ölçme, Değerlendirme ve Sınav Hizmetleri Genel Müdürlüğünün yazılı izni olmadan kopya edilmesi, fotoğraflarının çekilmesi, bilgisayar ortamına alınması, herhangi bir yolla çoğaltılması, yayımlanması veya başka bir amaçla kullanılması yasaktır. Bu yasağa uymayanlar, doğabilecek cezai sorumluluğu ve kitapçığın hazırlanmasındaki mali külfeti peşinen kabullenmiş sayılır.

21 AĞUSTOS 2016 TARİHİNDE YAPILAN AÇIKÖĞRETİM LİSESİ / MESLEKİ AÇIKÖĞRETİM LİSESİ
2015-2016 ÖĞRETİM YILI EK SINAVI 1. OTURUM T KİTAPÇIĞI CEVAP ANAHTARI

DİN KÜL. AHL. BİL. – 5	DİN KÜL. AHL. BİL. – 7	FELSEFE – 1	TARİH – 1
1. B	1. A	1. C	1. C
2. A	2. B	2. D	2. B
3. C	3. D	3. A	3. A
4. A	4. A	4. C	4. D
5. B	5. B	5. A	5. A
6. D	6. C	6. B	6. C
7. C	7. D	7. B	7. B
8. A	8. D	8. C	8. D
9. D	9. A	9. D	9. D
10. C	10. C	10. B	10. C
11. B	11. B	11. C	11. C
12. D	12. A	12. D	12. B
13. C	13. C	13. B	13. A
14. D	14. C	14. D	14. B
15. B	15. A	15. C	15. C
16. C	16. B	16. D	16. D
17. C	17. C	17. A	17. C
18. B	18. D	18. B	18. A
19. A	19. B	19. A	19. B
20. D	20. A	20. D	20. D

DİN KÜL. AHL. BİL. – 6	DİN KÜL. AHL. BİL. – 8	FELSEFE – 2	TARİH – 2
1. A	1. D	1. B	1. C
2. C	2. C	2. A	2. A
3. B	3. A	3. A	3. A
4. B	4. C	4. B	4. B
5. A	5. B	5. C	5. D
6. C	6. C	6. D	6. A
7. D	7. D	7. B	7. D
8. B	8. C	8. D	8. B
9. C	9. B	9. C	9. A
10. B	10. D	10. A	10. C
11. D	11. A	11. B	11. C
12. C	12. B	12. C	12. A
13. A	13. B	13. A	13. B
14. D	14. C	14. B	14. C
15. B	15. A	15. C	15. D
16. A	16. D	16. A	16. B
17. C	17. A	17. B	17. A
18. A	18. C	18. D	18. A
19. D	19. B	19. C	19. B
20. B	20. A	20. D	20. B

21 AĞUSTOS 2016 TARİHİNDE YAPILAN AÇIKÖĞRETİM LİSESİ / MESLEKİ AÇIKÖĞRETİM LİSESİ
2015-2016 ÖĞRETİM YILI EK SINAVI 1. OTURUM T KİTAPÇIĞI CEVAP ANAHTARI

TARİH – 3	TARİH – 5	T.C. İNK. TAR. ATA. – 1	COĞRAFYA – 3
1. B	1. A	1. C	1. D
2. C	2. B	2. A	2. A
3. A	3. C	3. D	3. B
4. D	4. A	4. C	4. C
5. D	5. D	5. B	5. C
6. B	6. B	6. C	6. B
7. C	7. D	7. D	7. D
8. C	8. C	8. A	8. A
9. A	9. D	9. B	9. D
10. B	10. A	10. A	10. D
11. B	11. C	11. D	11. B
12. C	12. D	12. C	12. A
13. A	13. B	13. A	13. C
14. B	14. A	14. C	14. A
15. A	15. D	15. C	15. B
16. C	16. D	16. B	16. A
17. D	17. C	17. A	17. B
18. A	18. B	18. B	18. C
19. A	19. B	19. D	19. C
20. B	20. D	20. C	20. D

TARİH – 4	TARİH – 6	T.C. İNK. TAR. ATA. – 2	COĞRAFYA – 4
1. D	1. A	1. C	1. C
2. C	2. B	2. B	2. B
3. B	3. D	3. C	3. C
4. C	4. C	4. D	4. A
5. A	5. B	5. B	5. B
6. B	6. A	6. D	6. B
7. D	7. D	7. C	7. C
8. C	8. B	8. A	8. A
9. B	9. B	9. A	9. B
10. D	10. C	10. D	10. D
11. C	11. B	11. B	11. D
12. B	12. C	12. A	12. C
13. D	13. B	13. C	13. B
14. B	14. D	14. D	14. D
15. A	15. D	15. C	15. A
16. C	16. A	16. D	16. D
17. A	17. D	17. A	17. A
18. D	18. C	18. C	18. C
19. A	19. A	19. C	19. D
20. D	20. D	20. B	20. A

21 AĞUSTOS 2016 TARİHİNDE YAPILAN AÇIKÖĞRETİM LİSESİ / MESLEKİ AÇIKÖĞRETİM LİSESİ
2015-2016 ÖĞRETİM YILI EK SINAVI 1. OTURUM T KİTAPÇIĞI CEVAP ANAHTARI

COĞRAFYA – 5

1. D
2. B
3. A
4. B
5. A
6. D
7. D
8. B
9. C
10. A
11. C
12. C
13. A
14. A
15. D
16. D
17. B
18. B
19. C
20. D

COĞRAFYA – 7

1. C
2. A
3. A
4. D
5. D
6. A
7. B
8. C
9. C
10. B
11. A
12. D
13. B
14. C
15. B
16. B
17. C
18. D
19. D
20. A

MATEMATİK – 3

1. C
2. D
3. B
4. C
5. D
6. B
7. A
8. C
9. A
10. A
11. A
12. B
13. D
14. B
15. C
16. B
17. A
18. C
19. D
20. C

PSİKOLOJİ – 1

1. D
2. A
3. B
4. C
5. C
6. A
7. D
8. A
9. C
10. B
11. A
12. B
13. D
14. B
15. D
16. C
17. A
18. C
19. D
20. B

COĞRAFYA – 6

1. B
2. D
3. C
4. C
5. A
6. D
7. D
8. B
9. A
10. C
11. A
12. C
13. D
14. D
15. C
16. D
17. A
18. A
19. B
20. B

COĞRAFYA – 8

1. C
2. A
3. D
4. B
5. C
6. D
7. D
8. B
9. B
10. C
11. B
12. A
13. A
14. D
15. B
16. A
17. D
18. C
19. C
20. A

MATEMATİK – 4

1. D
2. D
3. C
4. A
5. B
6. C
7. D
8. A
9. B
10. B
11. C
12. D
13. C
14. B
15. C
16. B
17. A
18. A
19. D
20. C

PSİKOLOJİ – 2

1. C
2. B
3. A
4. D
5. C
6. B
7. D
8. A
9. B
10. A
11. A
12. C
13. B
14. D
15. C
16. A
17. B
18. D
19. D
20. B

21 AĞUSTOS 2016 TARİHİNDE YAPILAN AÇIKÖĞRETİM LİSESİ / MESLEKİ AÇIKÖĞRETİM LİSESİ
2015-2016 ÖĞRETİM YILI EK SINAVI 1. OTURUM T KİTAPÇIĞI CEVAP ANAHTARI

SOSYOLOJİ – 1	İNGİLİZCE – 3	FRANSIZCA – 3	ALMANCA – 4
1. A	1. B	1. C	1. C
2. A	2. D	2. B	2. B
3. B	3. A	3. A	3. A
4. C	4. C	4. D	4. D
5. D	5. D	5. D	5. C
6. B	6. B	6. A	6. A
7. A	7. C	7. B	7. B
8. B	8. B	8. C	8. D
9. C	9. A	9. C	9. A
10. D	10. D	10. B	10. C
11. D	11. B	11. A	11. D
12. C	12. D	12. D	12. B
13. C	13. D	13. B	13. C
14. A	14. C	14. B	14. D
15. B	15. A	15. C	15. A
16. D	16. D	16. A	16. B
17. A	17. B	17. D	17. A
18. C	18. C	18. B	18. C
19. A	19. A	19. C	19. D
20. B	20. C	20. A	20. B

SOSYOLOJİ – 2	ALMANCA – 3	İNGİLİZCE – 4	FRANSIZCA – 4
1. D	1. C	1. A	1. A
2. A	2. D	2. C	2. B
3. C	3. A	3. D	3. B
4. B	4. B	4. B	4. C
5. C	5. D	5. D	5. A
6. A	6. A	6. A	6. D
7. D	7. B	7. C	7. C
8. B	8. C	8. B	8. B
9. D	9. A	9. D	9. A
10. A	10. B	10. B	10. A
11. A	11. D	11. C	11. D
12. C	12. A	12. A	12. C
13. D	13. D	13. C	13. B
14. B	14. C	14. A	14. C
15. C	15. C	15. D	15. B
16. D	16. B	16. C	16. A
17. C	17. A	17. D	17. D
18. B	18. B	18. D	18. C
19. A	19. C	19. B	19. C
20. B	20. D	20. A	20. A

21 AĞUSTOS 2016 TARİHİNDE YAPILAN AÇIKÖĞRETİM LİSESİ / MESLEKİ AÇIKÖĞRETİM LİSESİ
2015-2016 ÖĞRETİM YILI EK SINAVI 1. OTURUM T KİTAPÇIĞI CEVAP ANAHTARI

İNGİLİZCE – 5

1. D
2. C
3. B
4. D
5. C
6. D
7. B
8. C
9. A
10. D
11. D
12. A
13. C
14. B
15. A
16. D
17. B
18. A
19. C
20. C

FRANSIZCA – 5

1. C
2. B
3. A
4. D
5. D
6. B
7. A
8. D
9. B
10. C
11. B
12. A
13. C
14. D
15. A
16. C
17. B
18. C
19. A
20. D

DİL ve ANLATIM – 4

1. D
2. B
3. A
4. D
5. C
6. A
7. D
8. A
9. A
10. C
11. C
12. A
13. C
14. B
15. B
16. D
17. C
18. B
19. C
20. D

DİL ve ANLATIM – 6

1. D
2. C
3. A
4. A
5. C
6. A
7. C
8. B
9. B
10. D
11. B
12. A
13. D
14. B
15. A
16. D
17. C
18. B
19. B
20. D

ALMANCA – 5

1. A
2. A
3. C
4. B
5. D
6. A
7. B
8. C
9. D
10. A
11. C
12. D
13. B
14. C
15. B
16. D
17. D
18. B
19. A
20. C

DİL ve ANLATIM – 3

1. D
2. D
3. A
4. C
5. D
6. A
7. A
8. C
9. B
10. B
11. B
12. D
13. C
14. A
15. D
16. A
17. B
18. D
19. A
20. C

DİL ve ANLATIM – 5

1. A
2. D
3. B
4. A
5. C
6. A
7. C
8. A
9. D
10. B
11. C
12. B
13. A
14. B
15. D
16. C
17. A
18. C
19. D
20. A

DİL ve ANLATIM – 7

1. A
2. D
3. C
4. B
5. C
6. C
7. D
8. B
9. A
10. B
11. D
12. B
13. A
14. D
15. C
16. A
17. D
18. B
19. B
20. D

21 AĞUSTOS 2016 TARİHİNDE YAPILAN AÇIKÖĞRETİM LİSESİ / MESLEKİ AÇIKÖĞRETİM LİSESİ
2015-2016 ÖĞRETİM YILI EK SINAVI 1. OTURUM T KİTAPÇIĞI CEVAP ANAHTARI

DİL ve ANLATIM – 8

1. D
2. B
3. D
4. A
5. C
6. B
7. D
8. A
9. A
10. D
11. C
12. B
13. C
14. D
15. C
16. C
17. D
18. B
19. C
20. A

TÜRK EDEBİYATI – 4

1. C
2. A
3. C
4. B
5. D
6. B
7. D
8. C
9. B
10. C
11. D
12. B
13. C
14. A
15. D
16. B
17. A
18. D
19. A
20. D

TÜRK EDEBİYATI – 6

1. C
2. D
3. A
4. B
5. C
6. B
7. D
8. B
9. C
10. A
11. B
12. D
13. C
14. B
15. C
16. A
17. D
18. A
19. C
20. B

TÜRK EDEBİYATI – 8

1. D
2. B
3. D
4. D
5. A
6. A
7. D
8. B
9. A
10. B
11. C
12. D
13. A
14. A
15. C
16. B
17. A
18. D
19. C
20. C

TÜRK EDEBİYATI – 3

1. A
2. A
3. D
4. B
5. D
6. A
7. A
8. C
9. B
10. D
11. A
12. B
13. D
14. A
15. C
16. C
17. B
18. A
19. C
20. B

TÜRK EDEBİYATI – 5

1. A
2. C
3. C
4. B
5. D
6. A
7. B
8. D
9. B
10. C
11. A
12. B
13. A
14. C
15. B
16. B
17. A
18. D
19. C
20. A

TÜRK EDEBİYATI – 7

1. B
2. C
3. D
4. C
5. D
6. C
7. A
8. B
9. B
10. D
11. B
12. B
13. C
14. A
15. B
16. C
17. D
18. B
19. A
20. A

KİMYA – 1

1. D
2. B
3. A
4. C
5. A
6. D
7. B
8. C
9. A
10. D
11. B
12. D
13. A
14. B
15. C
16. D
17. B
18. C
19. A
20. C

21 AĞUSTOS 2016 TARİHİNDE YAPILAN AÇIKÖĞRETİM LİSESİ / MESLEKİ AÇIKÖĞRETİM LİSESİ
2015-2016 ÖĞRETİM YILI EK SINAVI 1. OTURUM T KİTAPÇIĞI CEVAP ANAHTARI

KİMYA – 2

1. A
2. C
3. B
4. D
5. C
6. D
7. B
8. A
9. B
10. C
11. D
12. B
13. C
14. B
15. B
16. C
17. D
18. B
19. A
20. D

BİYOLOJİ – 2

1. B
2. A
3. B
4. D
5. B
6. B
7. A
8. A
9. D
10. C
11. C
12. D
13. D
14. A
15. C
16. B
17. A
18. C
19. B
20. D

TEMEL DİNİ BİL. – 1

1. A
2. D
3. B
4. C
5. A
6. D
7. B
8. D
9. B
10. D
11. A
12. C
13. C
14. B
15. A
16. A
17. C
18. B
19. B
20. D

MANTIK – 1

1. C
2. A
3. D
4. B
5. D
6. C
7. D
8. A
9. B
10. C
11. C
12. A
13. C
14. B
15. D
16. A
17. B
18. C
19. D
20. A

BİYOLOJİ – 1

1. B
2. A
3. C
4. D
5. D
6. A
7. C
8. B
9. A
10. C
11. C
12. D
13. B
14. A
15. A
16. B
17. A
18. C
19. A
20. B

Ç. TÜRK ve DÜNYA TAR.– 2

1. B
2. D
3. A
4. C
5. B
6. D
7. C
8. B
9. A
10. B
11. A
12. C
13. B
14. C
15. B
16. A
17. D
18. D
19. C
20. B

TEMEL DİNİ BİL. – 2

1. B
2. A
3. C
4. D
5. B
6. A
7. C
8. D
9. D
10. C
11. A
12. B
13. D
14. C
15. B
16. A
17. C
18. D
19. B
20. A

MANTIK – 2

1. D
2. A
3. C
4. B
5. A
6. C
7. B
8. D
9. B
10. C
11. D
12. B
13. D
14. A
15. C
16. B
17. A
18. B
19. C
20. A

21 AĞUSTOS 2016 TARİHİNDE YAPILAN AÇIKÖĞRETİM LİSESİ / MESLEKİ AÇIKÖĞRETİM LİSESİ
2015-2016 ÖĞRETİM YILI EK SINAVI 1. OTURUM T KİTAPÇIĞI CEVAP ANAHTARI

SAĞLIK BİLGİSİ – 1

1. B
2. A
3. D
4. C
5. D
6. A
7. B
8. C
9. A
10. D
11. B
12. D
13. A
14. C
15. B
16. D
17. D
18. C
19. A
20. C

TRAF. VE İLK YARD. – 1

1. A
2. C
3. B
4. A
5. D
6. B
7. C
8. A
9. B
10. D
11. D
12. B
13. A
14. D
15. C
16. C
17. D
18. B
19. C
20. A

İNGİLİZCE – 6

1. B
2. A
3. B
4. D
5. B
6. A
7. D
8. C
9. B
10. C
11. A
12. C
13. A
14. D
15. C
16. B
17. C
18. D
19. B
20. A

FRANSIZCA – 6

1. D
2. A
3. D
4. C
5. C
6. D
7. B
8. D
9. A
10. C
11. D
12. A
13. C
14. B
15. D
16. B
17. C
18. A
19. C
20. D

SAĞLIK BİLGİSİ – 2

1. A
2. B
3. D
4. B
5. C
6. A
7. D
8. A
9. B
10. C
11. D
12. A
13. A
14. B
15. D
16. C
17. A
18. B
19. D
20. C

TRAF. VE İLK YARD. – 2

1. B
2. D
3. A
4. B
5. C
6. A
7. B
8. A
9. D
10. D
11. B
12. C
13. A
14. B
15. C
16. C
17. B
18. D
19. C
20. A

ALMANCA – 6

1. A
2. B
3. C
4. A
5. B
6. D
7. B
8. A
9. C
10. A
11. D
12. A
13. C
14. B
15. D
16. D
17. B
18. C
19. D
20. C

İNGİLİZCE – 7

1. D
2. A
3. D
4. B
5. A
6. C
7. A
8. C
9. C
10. B
11. A
12. D
13. B
14. C
15. B
16. C
17. D
18. A
19. C
20. B

21 AĞUSTOS 2016 TARİHİNDE YAPILAN AÇIKÖĞRETİM LİSESİ / MESLEKİ AÇIKÖĞRETİM LİSESİ
2015-2016 ÖĞRETİM YILI EK SINAVI 1. OTURUM T KİTAPÇIĞI CEVAP ANAHTARI

ALMANCA – 7

1. B
2. D
3. D
4. A
5. C
6. B
7. A
8. B
9. C
10. A
11. C
12. B
13. D
14. C
15. A
16. D
17. C
18. D
19. A
20. B

İNGİLİZCE – 8

1. D
2. A
3. D
4. B
5. D
6. C
7. B
8. C
9. B
10. C
11. A
12. C
13. C
14. A
15. A
16. D
17. B
18. C
19. A
20. B

FRANSIZCA – 8

1. A
2. C
3. D
4. B
5. C
6. A
7. D
8. B
9. D
10. B
11. C
12. A
13. A
14. B
15. C
16. D
17. A
18. D
19. B
20. C

HZ. MUHAMMED'İN HAY. – 4

1. B
2. B
3. D
4. A
5. C
6. A
7. B
8. C
9. D
10. A
11. C
12. A
13. C
14. D
15. B
16. D
17. A
18. D
19. B
20. C

FRANSIZCA – 7

1. C
2. D
3. A
4. B
5. B
6. C
7. A
8. D
9. A
10. B
11. C
12. D
13. D
14. C
15. B
16. A
17. B
18. C
19. A
20. C

ALMANCA – 8

1. A
2. B
3. B
4. D
5. A
6. D
7. B
8. D
9. C
10. D
11. C
12. B
13. C
14. A
15. D
16. C
17. A
18. B
19. C
20. A

HZ. MUHAMMED'İN HAY. – 3

1. A
2. D
3. D
4. C
5. A
6. C
7. D
8. B
9. D
10. B
11. C
12. C
13. A
14. C
15. D
16. B
17. B
18. A
19. C
20. A

DEMOKRASİ ve İNS. HAK. – 2

1. B
2. D
3. A
4. C
5. A
6. C
7. B
8. A
9. B
10. D
11. B
12. D
13. C
14. A
15. C
16. C
17. A
18. D
19. B
20. D

21 AĞUSTOS 2016 TARİHİNDE YAPILAN AÇIKÖĞRETİM LİSESİ / MESLEKİ AÇIKÖĞRETİM LİSESİ
2015-2016 ÖĞRETİM YILI EK SINAVI 1. OTURUM T KİTAPÇIĞI CEVAP ANAHTARI

KARŞ. DİN. TARİHİ – 1

1. C
2. B
3. C
4. A
5. B
6. C
7. B
8. D
9. A
10. D
11. B
12. A
13. D
14. A
15. B
16. A
17. D
18. C
19. D
20. C

KELAM – 1

1. C
2. A
3. D
4. D
5. A
6. C
7. B
8. A
9. D
10. B
11. D
12. B
13. C
14. A
15. C
16. B
17. C
18. B
19. A
20. C

GİRİŞİMCİLİK – 1

1. A
2. C
3. B
4. D
5. C
6. A
7. C
8. B
9. C
10. C
11. C
12. A
13. D
14. A
15. B
16. C
17. A
18. A
19. B
20. B

KARŞ. DİN. TARİHİ – 2

1. A
2. C
3. A
4. B
5. B
6. D
7. C
8. A
9. D
10. B
11. B
12. C
13. D
14. A
15. D
16. C
17. B
18. A
19. B
20. D

KELAM – 2

1. B
2. D
3. B
4. A
5. B
6. A
7. D
8. C
9. A
10. D
11. C
12. D
13. A
14. D
15. C
16. C
17. B
18. C
19. B
20. C