

**OTURUM****1****T.C.****MİLLÎ EĞİTİM BAKANLIĞI****ÖLÇME, DEĞERLENDİRME VE SINAV HİZMETLERİ****GENEL MÜDÜRLÜĞÜ****AÇIK ÖĞRETİM LİSESİ / MESLEKİ AÇIK ÖĞRETİM LİSESİ****2015-2016 ÖĞRETİM YILI EK SINAV****1. OTURUM: 02 EKİM 2016 Saat: 9.30****T**

<b>DERS KODU VE ADI</b>	<b>SAYFA</b>	<b>DERS KODU VE ADI</b>	<b>SAYFA</b>	<b>DERS KODU VE ADI</b>	<b>SAYFA</b>
(115) DİN KÜL. AHL. BİL. – 5	2	(242) ALMANCA – 3	34	(465) TEMEL DİNİ BİL. – 1	68
(116) DİN KÜL. AHL. BİL. – 6	3	(242) FRANSIZCA – 3	35	(466) TEMEL DİNİ BİL. – 2	69
(117) DİN KÜL. AHL. BİL. – 7	4	(243) İNGİLİZCE – 4	36	(478) MANTIK – 1	70
(118) DİN KÜL. AHL. BİL. – 8	5	(243) ALMANCA – 4	37	(483) SAĞLIK BİLGİSİ – 1	71
(121) FELSEFE – 1	7	(243) FRANSIZCA – 4	38	(484) SAĞLIK BİLGİSİ – 2	73
(122) FELSEFE – 2	8	(244) İNGİLİZCE – 5	39	(491) TRAF. VE İLK YARD. – 1	74
(131) TARİH – 1	9	(244) ALMANCA – 5	40	(492) TRAF. VE İLK YARD. – 2	76
(132) TARİH – 2	10	(244) FRANSIZCA – 5	40	(500) İNGİLİZCE – 6	77
(133) TARİH – 3	11	(403) DİL VE ANLATIM – 3	41	(500) ALMANCA – 6	78
(134) TARİH – 4	13	(404) DİL VE ANLATIM – 4	44	(500) FRANSIZCA – 6	79
(135) TARİH – 5	14	(405) DİL VE ANLATIM – 5	45	(501) İNGİLİZCE – 7	80
(136) TARİH – 6	15	(406) DİL VE ANLATIM – 6	47	(501) ALMANCA – 7	81
(141) T.C. İNK. TAR. VE ATA. – 1	16	(407) DİL VE ANLATIM – 7	48	(501) FRANSIZCA – 7	82
(142) T.C. İNK. TAR. VE ATA. – 2	18	(408) DİL VE ANLATIM – 8	50	(502) İNGİLİZCE – 8	83
(153) COĞRAFYA – 3	19	(413) TÜRK EDEBİYATI – 3	51	(502) ALMANCA – 8	84
(154) COĞRAFYA – 4	21	(414) TÜRK EDEBİYATI – 4	53	(502) FRANSIZCA – 8	85
(155) COĞRAFYA – 5	22	(415) TÜRK EDEBİYATI – 5	54	(533) HZ. MUHAMMED'İN HAY. – 3	86
(156) COĞRAFYA – 6	24	(416) TÜRK EDEBİYATI – 6	56	(534) HZ. MUHAMMED'İN HAY. – 4	87
(157) COĞRAFYA – 7	25	(417) TÜRK EDEBİYATI – 7	57	(608) DEMOKRASI ve İNS. HAK. – 2	89
(158) COĞRAFYA – 8	27	(418) TÜRK EDEBİYATI – 8	59	(611) KARŞ. DİN. TAR. – 1	90
(163) MATEMATİK – 3	28	(431) KİMYA – 1	61	(612) KARŞ. DİN. TAR. – 2	91
(164) MATEMATİK – 4	29	(432) KİMYA – 2	62	(811) KELAM – 1	93
(206) PSİKOLOJİ – 1	31	(441) BİYOLOJİ – 1	64	(812) KELAM – 2	94
(209) SOSYOLOJİ – 2	32	(442) BİYOLOJİ – 2	65		
(242) İNGİLİZCE – 3	33	(452) Ç. TÜRK ve DÜNYA TAR. – 2	66		

**ADAYLARIN DİKKATİNE!**

1. Her ders için **20** soru bulunmaktadır. Bu oturumda **180** dakikalık cevaplama süreniz vardır. Sınav başladıktan sonra ilk **30** dakika tamamlanmadan dışarı çıkmayınız.
2. Sınav sırasında çanta, cep telefonu, saat, kablosuz iletişim sağlayan cihazlar ve kulaklık, kolye, küpe, bilezik, yüzük, broş ve benzeri eşyalar ile her türlü elektronik ve/veya mekanik cihazları yanınızda bulundurmuyunuz. Bu araçları kullanmanız ve kopya çekmeye teşebbüs etmeniz hâlinde sınavınız geçersiz sayılacaktır.
3. Başvuru şartlarını taşımadığınız hâlde sınava girmeniz, kopya çekmeniz, başka adayın sınav evrakını kullanmanız, geçerli kimlik belgenizi ve sınav giriş belgenizi ibraz edemediğiniz durumlarda sınavınız geçersiz sayılacaktır.
4. Sınavın değerlendirilmesi aşamasında, bilgisayar ortamında yapılan kopya analizinde ikili veya toplu kopya tespiti hâlinde sınavınız geçersiz sayılacaktır.

**CEVAP KAĞIDI VE SORU KİTAPÇIĞI İLE İLGİLİ AÇIKLAMALAR**

1. Cevap kağıdınızdaki bilgilerin doğruluğunu kontrol ediniz ve cevap kağıdınızı mürekkepli kalemle imzalayınız.
2. Soru kitapçığının sayfalarını görevlilerin uyarıları doğrultusunda kontrol ediniz, baskı hatası var ise değiştirilmesini sağlayınız.
3. Soruların çözümünü için size ayrıca boş kağıt verilmeyecektir. Soru kitapçığının içindeki boş alanları soru çözümleri için kullanabilirsiniz.
4. Her sorunun dört seçeneğinden sadece biri doğrudur. Doğru seçeneği, cevap kağıdınızın ilgili sütununa soru numarasını dikkate alarak yuvarlağın dışına taşırmadan kodlayınız. **Soru kitapçığı üzerinde yapılan cevaplandırmalar dikkate alınmayacaktır.**
5. Cevap kağıdı üzerinde kodlamalarınızı siyah kurşun kalemle yapınız.
6. Değiştirmek istediğiniz bir cevabı, yumuşak silgiyle cevap kağıdını örselemeden temizce siliniz ve yeni cevabınızı kodlayınız.
7. Cevaplamaya istediğiniz dersin sorusundan başlayabilirsiniz. Cevabını bilmediğiniz sorular üzerinde fazla zaman kaybetmeden diğer sorulara geçiniz. Zamanınız kalırsa bu sorulara daha sonra dönebilirsiniz.
8. Yanlış cevaplarınız dikkate alınmadan sadece doğru cevaplarınız üzerinden puanlama yapılacaktır.
9. Soruları ve sorulara verdiğiniz cevapları, yanınızda götürmek amacıyla kaydetmeyiniz; hiçbir şekilde dışarı çıkarmayınız.
10. **Sınav bitiminde soru kitapçığı ve cevap kağıdını salon görevlilerine teslim ediniz, aksi takdirde sınavınız geçersiz sayılacaktır.**

**BAŞLAYINIZ DENİLMEYEN SORU KİTAPÇIĞINI AÇMAYINIZ.**

## 1. OTURUM

(115) DİN KÜL. AHL. BİL. – 5

1. Aşağıdakilerden hangisi kaza ve kader konusunda İslam'ın uygun gördüğü bir tutum ve yaklaşım değildir?

- A) Trafik kazalarını hiçbir tedbir alınamayacak bir kader konusu olarak görmek
- B) Trafik kazalarına karşı emniyet kemeri vb. tedbirler almak
- C) Trafik kazalarının nedenlerini araştırarak önlemler almak
- D) Trafik kazalarına uyma konusunda duyarlı olmak

2. Peygamber Efendimizin ismi söylendikten sonra ona olan saygı ve sevgiyi ifade etmek için aşağıdakilerden hangisi söylenir?

- A) Rabbenâ lekel hamd
- B) Sübhâne rabbiyel azîm
- C) Semiallâhu limen hamide
- D) Sallallahu aleyhi ve sellem

3. "... Bir konuda karar verince (artık) Allah'a güven. Zira Allah, ona güven duyanları sever." (Âl-i İmran suresi, 159. ayet)

**Bu ayette vurgulanan husus aşağıdakilerden hangisidir?**

- A) Takdir
- B) Rıza
- C) Tevekkül
- D) Tedbir

4. "Allah'a dayandım!" diye sen çıkma yataktan...  
Manâyı tevekkül bu mudur?  
Hey gidi nâdan!  
Ecdadını zannetme asırlarca uyurdu;  
Nerde bulacaktın o zaman eldeki yurdu?

**Bu şiirde eleştirilen tutum ve davranış aşağıdakilerden hangisidir?**

- A) Cehalet
- B) Haset
- C) Tembellik
- D) Cimrilik

5. "Gerçekten müminler kurtuluşa ermişlerdir; onlar ki, namazlarında huşu içindedirler, onlar ki, boş ve yararsız şeylerden yüz çevirirler; onlar ki, zekâtı verirler ve onlar ki, iffetlerini korurlar." (Mü'minün suresi, 1-5. ayetler)

**Verilen ayetlerde aşağıdakilerden hangisine değilmemiştir?**

- A) İffet ve namusu korumak
- B) Verilen sözleri yerine getirmek
- C) Namazları samimiyetle kılmak
- D) Boş ve faydasız işlerden kaçınmak

6. Doğal afetlere kader açısından bakıldığında aşağıdakilerden hangisi yanlıştır?

- A) Doğal afetlerden korunmak için her birey, imkânı ölçüsünde önlem almalıdır.
- B) Gereken tedbirleri aldıktan sonra oluşan can ve mal kaybını "Allah'ın takdiri böyleymiş" diyerek karşılamak hatadır.
- C) Doğal afetlerin oluşma zamanı belirsizdir.
- D) Tabii afetler, insan iradesinin dışında gelişir.

7. Yüce Allah'ın nesne ve olaylara ilişkin ezeli planını gerçekleştirmesi anlamına gelen kavram aşağıdakilerden hangisidir?

- A) Kaza
- B) Ecel
- C) İrade
- D) Tevekkül

8. "Ehl-i Beyt" ne anlama gelmektedir?

- A) Peygamberimizin ailesi ve torunları
- B) Peygamberimizin arkadaşları
- C) Peygamberimizin vahiy kâtipleri
- D) Peygamberimizle hicret eden sahâbler

9. "Rabb'imiz! Unutursak veya hataya düşersek bizi sorumlu tutma. Ey Rabb'imiz! Bizden öncekilere yüklediğin gibi bize de ağır bir yük yükleme..." (Bakara suresi, 286. ayet)

**Bu ayet ibadetle ilgili temel ilkelere hangisine kanıt oluşturur?**

- A) İsteklilik
- B) Samimiyet
- C) Kolaylık ve güç yetirebilirlik
- D) Gösterişten uzak durma

10. "Kullarım sana, beni sorduğunda (söyle onlara): Ben çok yakıным. Bana dua ettiği vakit dua edenin dileğine karşılık veririm. O halde (kullarım da) benim davetime uyunlar ve bana inansınlar ki doğru yolu bulsunlar."

(Bakara suresi, 186. ayet)

**Aşağıdakilerden hangisi bu ayetten çıkarılacak bir sonuç değildir?**

- A) Allah ile insan arasında yakın bir ilişki vardır.
- B) Allah insanların dualarına karşılık verir.
- C) Allah insanları kendisine dua etmeye çağırır.
- D) Allah insanların gösterişten uzak durmalarını ister.

11. Aşağıdakilerden hangisi ibadetlerin faydalarından biri değildir?

- A) Kötülüklerden alıkoyar.
- B) Sorumluluk duygusunu azaltır.
- C) Yaratıcı ile ilişkiyi güçlendirir.
- D) Güzel ahlakın gelişmesini sağlar.

12. "(Rabb'imiz!) Yalnız sana ibadet ederiz ve yalnız senden yardım dileriz." (Fatiha suresi, 5. ayet)

**Bu ayet, ibadetlerin yapılış amaçlarından hangisini vurgulamaktadır?**

- A) Cennet arzusu
- B) Yalnızca Allah için
- C) Cehennem korkusu
- D) Dünyalık nimetlere ulaşma

13. "Başınıza gelen herhangi bir musibet, kendi ellerinizle işledikleriniz yüzündendir..." (Şûrâ suresi, 30. ayet)

**Bu ayette aşağıdakilerden hangisine işaret edilmektedir?**

- A) İnsan, kaderinde olanı yaşar.
- B) Musibetler Allah'ın takdiri ile olur.
- C) İnsan kendine zarar vermemelidir.
- D) İnsanın kaderi, kendi iradesine göre şekillenir.

## 1. OTURUM

14. Kur'an'ın örnek insan olarak nitelendirdiği ahlaklı bir kişi aşağıdakilerden hangisini yapmaz?

- A) Akrabalarıyla ilişkisini keser.
- B) Ana-babasına iyi davranır.
- C) Daima doğruyu söyler.
- D) Verdiği sözde durur.

15. Bir ibadetin içtenlikle, maddi çıkar gözetmeden, yalnız Allah'ın rızasını kazanmak için yapılmasını ifade eden kavram aşağıdakilerden hangisidir?

- A) İhsan
- B) İhlas
- C) Tevekkül
- D) Tövbe

16. Peygamber Efendimizi örnek almanın doğru şekli aşağıdakilerden hangisidir?

- A) Onun gibi giyinmek
- B) Hadislerini ezberlemek
- C) Onu sevdiğini söylemek
- D) Sünnetini anlamak ve uygulamak

17. "Müslüman, elinden ve dilinden başkalarının zarar görmediği kimsedir."

**Bu hadis-i şerifte, İslam'ın ahlaklı prensiplerinden hangisi vurgulanmaktadır?**

- A) Hayır yapma
- B) Kararlı olma
- C) Güvenilir olma
- D) Misafire ikram etme

18. Aşağıdakilerden hangisi tüm mezheplerin üzerinde birleştiği İslam'ın temel unsurlarından biri değildir?

- A) Allah'ın birliği
- B) Peygamberlerin varlığı
- C) Kur'an-ı Kerim
- D) Mehdi inancı

19. Aşağıdakilerden hangisi siyasi-iteki mezheplerden biri değildir?

- A) Maturidilik
- B) Hanbelilik
- C) Haricilik
- D) Eş'arilik

20. İnsan, içinde yaşadığı toplumdan etkilenir. Kişinin görüş ve düşünceleri, yaşadığı toplumun değerlerine, örf, adet, gelenek ve göreneklerine göre şekillenir.

**Bu metinden, İslam düşüncesinde yorum farklılıklarının oluşmasında etkili olan sebeplerden hangisi çıkarılabilir?**

- A) Siyasi sebepler
- B) Coğrafi sebepler
- C) Sosyal ve kültürel sebepler
- D) Dini metinlerden kaynaklanan sebepler

### (116) DİN KÜL. AHL. BİL. – 6

1. Aşağıdakilerden hangisi camide namaz kıldırmakla görevlidir?

- A) Müezzin
- B) Müftü
- C) İmam
- D) Vaiz

2. Aşağıdakilerden hangisi hüsnühat sanatının temsilcilerindendir?

- A) Hamit Aytaç
- B) Dede Efendi
- C) Hacı Arif Bey
- D) Nigari

3. "Allah katında en sevimsiz helal, boşanmadır."

**Bu hadis aşağıdakilerden hangisiyle ilişkilendirilebilir?**

- A) Ailenin kurulması
- B) Ailenin korunması
- C) Aile içi iletişimin önemi
- D) Aile içi sorumluluklar

4. Aşağıdaki ayet ve hadislerden hangisi aile kurumunu koruma ya yönelik değildir?

- A) "Küçüklerine merhamet etmeyen, büyüklerine saygı göstermeyen bizden değildir." (Hadis-i Şerif)
- B) "Allah, esenlik yurduna çağırır ve dilediğini doğru yola iletir." (Yunus suresi, 25. ayet)
- C) "Çocuklarınıza hoşça davranın, onları güzel terbiye edin." (Hadis-i Şerif)
- D) "Zinaya yaklaşmayın. Zira o bir hayasızlıktır ve çok kötü bir yoldur." (İsra suresi, 32. ayet)

5. İnsanda güzellik hissi uyandıran, güzel duygu ve anlamlar içeren sanatla ilgili değer yargısıdır.

**Tanımı yapılan kavram aşağıdakilerden hangisidir?**

- A) Ahlak
- B) Edebiyat
- C) Estetik
- D) Medeniyet

6. "Dikkat ediniz!, Sizin, kadınlarınız üzerinde, kadınlarınızın da sizin üzerinizde hakları vardır..." "Hiçbir baba çocuğuna güzel ahlaktan daha üstün bir bağışta bulunmamıştır."

**Aşağıdakilerden hangisi bu iki hadisten çıkarılacak bir sonuç değildir?**

- A) Kadınların erkekler üzerinde haklarının bulunduğu
- B) Güzel ahlaklı çocuklar yetiştirmenin önemi
- C) Kadın ve erkeğin her bakımdan eşit olduğu
- D) Çocuk terbiyesinin maddi mirastan daha önemli olduğu

7. Aşağıdakilerden hangisi Diyanet İşleri Başkanlığının görevleri arasında yer almaz?

- A) Toplumun tarihi ve kültürel değerlerini korumak
- B) Dini konularda yayınlar yaparak halkı aydınlatmak
- C) Halkın dini konularda doğru bilgilenmesini sağlamak
- D) Ceza ve tutukevlerindeki mahkûmlara dini hizmet vermek

8. Diyanet İşleri Başkanlığının dini konularda en yüksek karar ve danışma organı aşağıdakilerden hangisidir?

- A) Din Hizmetleri Genel Müdürlüğü
- B) Rehberlik ve Teftiş Kurulu Başkanlığı
- C) Mushafı İnceleme ve Kıraat Kurulu Başkanlığı
- D) Din İşleri Yüksek Kurulu

9. Osmanlı İmparatorluğu zamanında din işleri aşağıdakilerden hangisi tarafından yürütülürdü?

- A) Kazasker
- B) Şeyhülislam
- C) Diyanet İşleri Başkanlığı
- D) Divan-ı Hümayun

## 1. OTURUM

10. 1920 yılında Ankara'da kurulan Meclis hükümetinde din hizmetleri aşağıdaki kurumlardan hangisine verilmiştir?

- A) Diyanet İşleri Başkanlığına
- B) Şer'îye ve Evkaf Vekâletine
- C) Din İşleri Yüksek Kuruluna
- D) İlahiyat Fakültelerine

11. Evlenen çiftlerin Tanrı tarafından tek bir varlık olarak kabul edildiği din aşağıdakilerden hangisidir?

- A) Şintoizm
- B) Hinduizm
- C) Hristiyanlık
- D) Yahudilik

12. Aşağıdakilerden hangisi il müftülüğüne bağlı olarak çalışmaz?

- A) Cezaevi vaizi
- B) Müezzin - kayyım
- C) Cami dernek başkanı
- D) Kur'an kursu öğreticisi

13. Cezaevi vaizinin bağlı olduğu kurum aşağıdakilerden hangisidir?

- A) Müftülükler
- B) İlahiyat Fakülteleri
- C) Milli Eğitim Bakanlığı
- D) Milli Eğitim Müdürlükleri

14. Aşağıdakilerden hangisi Diyanet İşleri Başkanlığının birimlerinden biri değildir?

- A) Hac ve Umre Hizmetleri Genel Müdürlüğü
- B) Din Hizmetleri Genel Müdürlüğü
- C) Dini Yayınlar Genel Müdürlüğü
- D) Talim Terbiye Kurulu Başkanlığı

15. Aşağıdakilerden hangisi Diyanet İşleri Başkanlığının hadis alanında yayımladığı eserlerden biridir?

- A) Hak Dini Kur'an Dili
- B) Kur'an-ı Kerim ve Meali
- C) Kur'an Yolu Türkçe Meal ve Tefsiri
- D) Sahih-i Buhari Muhtasarı Tecrid-i Sarih Tercümesi ve Şerhi

16. Aşağıdakilerden hangisi Kur'an-ı Kerim'de "en şerefli varlık" olarak nitelendirilmektedir?

- A) Cin
- B) İnsan
- C) Melek
- D) Peygamber

17. "Sen Rabbinin yoluna hikmet ve güzel öğütle çağır ve onlarla en güzel şekilde mücadele et!..." (Nahl suresi, 125. ayet)

**Bu ayetten aşağıdaki sonuçlardan hangisi çıkarılamaz?**

- A) İnsanlar Allah'ın dinine davet edilmelidir.
- B) İnsan, görünüşüne önem vermemelidir.
- C) Dil etkili bir şekilde kullanılmalıdır.
- D) İnsanlarla iyi ilişkiler kurulmalıdır.

18. "Sizi bir tek candan (Âdem'den) yaratan, ondan da yanında huzur bulsun diye eşini (Havva'yı) yaratan odur...." (A'râf suresi, 189. ayet)

**Bu ayette verilmek istenen mesaj aşağıdakilerden hangisidir?**

- A) Ailede mutluluğun önemi
- B) Ailenin korunmasının önemi
- C) Aile içi iletişimin önemi
- D) Aile büyüklerine saygının önemi

19. Kur'an Kerim ile ilgili verilen bilgilerden hangisi yanlıştır?

- A) Arap edebiyatına meydan okumuştur.
- B) Hz. Muhammed(sav.)'in en büyük mucizesidir.
- C) Allah'ın insana olan rahmetinin bir göstergesidir.
- D) Yalnızca Arap toplumunu muhatap alan ilahi bir kitaptır.

20. Müslümanlar tarafından Endülüs'te inşa edilen cami aşağıdakilerden hangisidir?

- A) Kurtuba
- B) Emeviye
- C) Süleymaniye
- D) Kubbetüssağra

(117) DİN KÜL. AHL. BİL. – 7

1. "İnanıp da imanlarına herhangi bir zulüm bulaştırmayanlar..." (En'am suresi, 82. ayet) ayetindeki zulümden kastın, "şirk" olduğu hadis ile belirtilmiştir.

**Bu durum sünnetin Kur'an'ı açıklamadaki hangi yönüne örnektir?**

- A) Te'kid
- B) Tefsir
- C) Temsil
- D) Teşri'

2. Aşağıdaki durumların hangisinde tövbe etmenin kişiye faydası olmaz?

- A) Ölüm anında
- B) İhtiyarlık çağında
- C) Büyük günah işlediğinde
- D) İşlediği günahı tekrarladığında

3. "O (Allah) hanginizin daha güzel iş yapacağını denemek için ölmü ve hayatı yarattı..." (Mülk suresi, 2. ayet)

**Bu ayette yaratılışla ilgili aşağıdaki sorulardan hangisinin cevabı yoktur?**

- A) Kim?
- B) Nasıl?
- C) Niçin?
- D) Neyi?

4. Ahirete iman ile aşağıdakilerden hangisi arasında doğrudan bir ilişki yoktur?

- A) Sorumluluk
- B) Mükâfat
- C) Ceza
- D) Sabır

5. Ahirete inanan bir kişide aşağıdakilerden hangisinin azalması beklenir?

- A) İç huzurun
- B) Güzel davranışların
- C) Hırs ve bencilliğin
- D) Sorumluluk duygusunun

6. Tasavvufi düşüncenin ortaya çıkmasında aşağıdakilerden hangisinin etkisi olmamıştır?

- A) Siyasi olayların
- B) İnsanın yapısının
- C) Dinin özünden uzaklaşmanın
- D) Fıkhi mezheplerin artmasının

## 1. OTURUM

7. I- Sübhaneke duası  
II- Salli-Barik duaları  
III- Zamm-ı sure

**Yukarıdaki dua ve surelerden hangisi/hangileri cenaze namazında okunmaz?**

- A) Yalnız I      B) Yalnız II  
C) Yalnız III      D) II ve III

8. “Gökyüzü yarıldığı zaman, yıldızlar döküldüğü zaman, denizler birbirine katıldığı zaman ...”  
(İnfitâr suresi, 1-3. ayetler)

**Kur’an’a göre bu ayetlerde bahsedilen olaylar ne zaman gerçekleşecektir?**

- A) Yeniden diriltirken  
B) Mağşere sevk edilirken  
C) Kıyamet koparken  
D) Hesap verilirken

9. “Her günün hâli, dünkü günün hâline benzemez. Haller ömür, zaman ırmak gibi akıp gider. Onu bağlayacak, akışını durduracak hiçbir şey yoktur.”

**Aşağıdakilerden hangisi Mevlana’nın bu sözü ile ilişkilendirilebilir?**

- A) Dünya ahiretin tarlasıdır.  
B) Ölüm bir hayat gerçeğidir.  
C) İki günü eşit olan bizden değildir.  
D) Ahiret hayatı vardır ve gerçekleşecektir.

10. **Yüce Allah’ın aşağıdaki isimlerinden hangisi tövbe ve bağışlama ile ilgili değildir?**

- A) el-Hakîm      B) es-Settâr  
C) el-Afüvv      D) el-Gaffâr

11. **Sünnet ile ilgili aşağıda verilen bilgilerden hangisi doğrudur?**

- A) Evrensel mesajlar içermez.  
B) Hüküm koyma yetkisi yoktur.  
C) Müslümanların birinci kaynağıdır.  
D) Hz. Peygamber’in söz, fiil ve takrirleridir.

12. “Her günün hâli, dünkü günün hâline benzemez. Haller ömür, zaman ırmak gibi akıp gider. Onu bağlayacak, akışını durduracak hiçbir şey yoktur.”

**Aşağıdakilerden hangisi Mevlana’nın bu sözü ile ilişkilendirilebilir?**

- A) Dünya ahiretin tarlasıdır.  
B) Ölüm bir hayat gerçeğidir.  
C) İki günü eşit olan bizden değildir.  
D) Ahiret hayatı vardır ve gerçekleşecektir.

13. “Câmiu’s-Sahih” adlı eserler aşağıdaki muhaddislerden hangilerine aittir?

- A) İmam Malik - Darimi  
B) Tirmizi - Ebu Davud  
C) İbni Mace - Nesâi  
D) Buhari - Müslim

14. **Hz. Muhammed (sav.)’i diğer insanlardan ayıran özelliği aşağıdakilerden hangisidir?**

- A) Peygamberliği  
B) Kişisel tercihleri  
C) Ahlaki özellikleri  
D) Yerel davranışları

15. **Kütübü sitte ile ilgili aşağıdaki bilgilerden hangisi doğrudur?**

- A) Ahmet b. Hanbel’ in hadis alanında yazdığı eserdir.  
B) Hadis Usulü alanında yazılan eserlerin genel ismidir.  
C) Hadis alanında muteber kabul edilen altı hadis kitabıdır.  
D) Hz. Peygamber’in hayatının tamamının anlatıldığı kitaplardır.

16. **Aşağıdakilerden hangisinin dünyaya aşırı bağlılık göstermeyi daha çok engellediği söylenebilir?**

- A) Kitaplara iman  
B) Meleklerle iman  
C) Kaza ve kadere iman  
D) Ahirete iman

17. Allah tüm varlığın yaratıcısı ve sahibidir. Allah varlıkları bir düzen ve ölçü içinde yaratmıştır. Yaratılanlar Allah’ın varlığı ve birliğine birer delildir.

**Bu metinde aşağıdaki ilişkilerden hangisi vurgulanmıştır?**

- A) Yaratıcı - Yaratılan  
B) Ahlak - Estetik  
C) Bilgi - Varlık  
D) Din - Bilim

18. **Aşağıdaki sözlerden hangisi tasavvufi düşüncedeki ahlaki ilkelere örnek oluşturmaz?**

- A) Kendin için istemediğini başkası için de isteme.  
B) Vaktini hayırlı işlerde değerlendir.  
C) Üzümü ye bağını sorma.  
D) Öfkene hâkim ol.

19. **Tasavvufi oluşumlardan Kâdirilik hangi İslam büyüğünün görüşleri etrafında şekillenmiştir?**

- A) Ahmet Yesevi  
B) Bahaeddin Nakşibend  
C) Abdulkadir Geylani  
D) Şeyh Yusuf Hamadani

20. **Aşağıdakilerden hangisi Alevilik-Bektaşilik kültürüne ait bir kavram değildir?**

- A) Gülbenk  
B) Otuz üç farz  
C) Üç sünnet, yedi farz  
D) Dört kapı kırk makam

(118) DİN KÜL. AHL. BİL. – 8

1. **Aşağıdakilerden hangisi toplumsal barışın oluşmasına katkı sağlamaz?**

- A) Tüm insanların aynı atadan (Hz. Adem’den) geldiğini kabul etmek  
B) Herkese karşı hoşgörülü olmaya gayret etmek  
C) İnsanların inanç ve düşüncelerine saygılı olmak  
D) Toplumlara aynı örf, âdet ve din etrafında toplamaya çalışmak

## 1. OTURUM

2. Aşağıdakilerden hangisi barışın sonuçları arasında yer almaz?

- A) Kalkınma B) Kargaşa  
C) Özgürlük D) Güven

3. Aşağıdakilerden hangisi Medine Sözleşmesi ve Hudeybiye Antlaşması'nın ortak özelliğidir?

- A) İslam'ın yabancı milletlere üstünlük sağlaması  
B) İslam'ın gerektiğinde savaşımaya izin vermesi  
C) İslam'ın barışa önem vermesi  
D) İslam'ın din olarak üstünlüğünü kabul ettirmesi

4. Bütün ilahi dinlerde savaş, hangi şarta bağlanmıştır?

- A) Daha rahat yaşama imkanı elde etmeye  
B) Vatan sınırlarını genişletmeye  
C) Eşitliği sağlamaya  
D) Nefsi müdafaaya

5. Atatürk'ün aşağıdaki sözlerinden hangisi dinin toplum hayatında gerekli bir müessese olduğu ile ilgilidir?

- A) "Dinsiz milletlerin devamına imkân yoktur."  
B) "Din, Allah ile kul arasındaki bir bağlılıktır."  
C) "Temeli çok sağlam bir dinimiz vardır."  
D) "Her fert din ve diyanetini, imanını öğrenmek için bir yere muhtaçtır. Orasıda mekteptir."

6. Atatürk'e göre İslam dininin hangi özelliği onun mükemmel ve son din olmasının delilidir?

- A) Toplumun genelini ilgilendiren hükümler içermesi  
B) Geçmiş milletlerden, ibretlik örnekler vermesi  
C) Tüm insanlara hitap etmesi  
D) Akla ve mantığa uygun olması

7. Aşağıdakilerden hangisi ilahi dinlerin ortak özelliğidir?

- A) Çok tanrı inancına sahiptirler.  
B) Kutsal metinlere bağlılık önemlidir.  
C) Belli bir inanç sistemine rastlanmaz.  
D) Belirli bir kabile ve kültüre ait dinlerdir.

8. Aşağıdaki kavramlardan hangisi Hristiyanlıktaki dinî bir töreni ifade eder?

- A) Teslis B) Vaftiz  
C) Katedral D) Kutsal ruh

9. Aşağıdakilerden hangisi Kast sistemindeki "din adamları" sınıfını ifade etmektedir?

- A) Brahmanlar B) Kşatriyalar  
C) Vaisyalar D) Sudralar

10. Cumhuriyet Dönemi'nde yazılan "Sahihi Buhari Muhtasarı ve Tecridi Sarih Tercemesi" adlı eserin konusu aşağıdakilerden hangisidir?

- A) Tefsir B) Kelam  
C) Hadis D) Dinler Tarihi

11. Aşağıdakilerden hangisi Atatürk döneminde yaşamış din adamlarından değildir?

- A) Muhammed Hamdi Yazır  
B) Hasan Hayrullah Efendi  
C) Ahmed Naim Efendi  
D) Rıfat Börekçi

12. • İbadet esnasında Kudüs'e dö-  
nülür.  
• Mabetlerde kadınlar ayinlere ka-  
tılamazlar.  
• İbadet sırasında erkekler başla-  
rına kipa alırlar.

Verilen bilgiler aşağıdaki dinler-  
den hangisiyle ilgilidir?

- A) Budizm B) Hinduizm  
C) Yahudilik D) Hristiyanlık

13. İslamiyet ile ilgili verilen bilgilerden hangisi doğrudur?

- A) İslam dininde kişi yaptıklarından sorumludur.  
B) Kitaplara iman Kur'an'a inandıktan ibarettir.  
C) Sadaka vermek sadece zenginlere yüklenen bir görevdir.  
D) İbadetler Allah rızası dışında bir maksat içinde yapılabilir.

14. Cumhuriyetin ilk yıllarında çıkartılan Tevhid-i Tedrisat Kanunu ile aşağıdakilerden hangisinin varlığına son verilmiştir?

- A) Medreselerin  
B) İlahiyat fakültelerinin  
C) Diyanet İşleri Başkanlığının  
D) İmam-Hatip okullarının

15. Budizm'deki kavramlar ve anlamları ile ilgili verilen eşleştirmelerden hangisi doğrudur?

- A) Tripitaka - Kutsal mekânlar  
B) Nirvana - Manevi bir makam  
C) Dhamma - Buda'nın lakabı  
D) Buda - Rahipler teşkilatı

16. Atatürk'e göre milletimizin sahip olduğu iki fazilet aşağıdaki-  
lerden hangisidir?

- A) Cesaret ve kahramanlık duygusu  
B) Dil ve din  
C) Vatan sevgisi ve örflerimize bağlılık  
D) Şehitlik ve Gazilik

17. Aşağıdaki bilgilerden hangisi İslam'a göre yanlıştır?

- A) Ahiret gibi dünya hayatı da ebedidir.  
B) Tenasüh inancının İslam'da yeri yoktur.  
C) Gözle görülmeyen varlıklar yok sayılmaz.  
D) Peygamberler de insani özelliklere sahiptir.

18. Aşağıdaki ibadetlerden hangisi dünya Müslümanlarının birlik ve beraberliğini daha çok sembolize eder?

- A) Namaz B) Zekât  
C) Oruç D) Hac

## 1. OTURUM

19. Kurban Bayramı hangi ayda yer almaktadır?

- A) Rebiulevvel B) Ramazan  
C) Zilhicce D) Şevval

20. Aşağıdaki ayetlerden hangisi "dinler arası ilişkiler" ile ilgilidir?

- A) "Sizin dininiz size benim dinimde banadır."  
(Kâfirun suresi,6.ayet)  
B) "Göğü Allah yükseltti ve dengeyi O koydu. Sakın dengeyi bozmayın."  
(Rahman suresi,7-8.ayetler)  
C) "Ey iman edenler! Mallarınız ve çocuklarınız sizi Allah'ı anmaktan alıkoymasın..."  
(Münâfikûn suresi,9.ayet)  
D) "Yapmayacağınız şeyleri söylemeniz Allah katında büyük bir nefretle karşılanır."  
(Saf suresi,3.ayet)

### (121) FELSEFE – 1

1. Bilginin kaynağını, ilkelerini, yöntemini ve çeşitli bilgi türlerini araştıran felsefe dalı aşağıdakilerden hangisidir?

- A) Ahlak felsefesi  
B) Sanat felsefesi  
C) Bilim felsefesi  
D) Bilgi felsefesi

2. Aşağıdakilerden hangisi gündelik bilgiye örnektir?

- A) Dünya hem kendi eksenini etrafında hem de güneşin etrafında döner.  
B) Ay dünyanın uydusudur.  
C) Üçgenin iç açılarının toplamı 180° dir.  
D) Papatya öksürüğe iyi gelir.

3. I. Deneye dayanma  
II. Olgusal olma  
III. Akla dayanma  
IV. Dünyayı ve insan yaşamını yorumlama

Verilenlerden hangileri felsefeyle bilimin ortak yönleridir?

- A) I ve II B) II ve III  
C) III ve IV D) II, III ve IV

4. Felsefe ulaştığı sonuçları temellendirmeye çalışırken, olgulara değil, mantıksal analize yönelir. Filozof ortaya koyduğu bilginin güvenilirliğini iç tutarlılığa bakarak denetler.

Buna göre iç tutarlılık kavramının açıklaması aşağıdakilerden hangisidir?

- A) Dünyayı ve insan yaşamını anlayabilme  
B) Çelişkili düşünceye yer vermememe  
C) Olaylara objektif bakabilme  
D) Eleştirel tavrı benimseme

5. • Belirli bir zamanda ve mekânda var olan her şeydir.  
• İnsan bilincinden bağımsız olarak var olan varlıklardır.

Yukarıda açıklaması verilen bilgi kuramının kavramı hangisidir?

- A) Bilgi B) Özne (süje)  
C) Gerçeklik D) Temellendirme

6. Aşağıdaki düşünce akımlarından hangisinin anlamı yanlış verilmiştir?

- A) Emprizm – Akılcılık  
B) Pozitivizm – Olguculuk  
C) Septisizm – Kuşkuculuk  
D) Pragmatizm – Faydacılık

7. Sofistlere göre bilginin kaynağı duyumlardır; duyum ve algılar ise öznedir. Bu yüzden herkesin kabul etmesi gereken genel geçer doğrular yoktur.

Buna göre sofistlerin bilgiyle ilgili görüşü aşağıdakilerden hangisidir?

- A) Algının nesnel olduğu  
B) Bilginin göreceli olduğu  
C) Deney bilgisinin doğru olduğu  
D) Bilginin akıl yoluyla elde edildiği

8. Bilginin kaynağını duyu, akıl, nazar olarak açıklayan, sezgiyi doğru bilgiye ulaşma aracı olarak gören, Aristoteles'in görüşlerinden yararlanarak İslam felsefesinin kurucularından olan filozof aşağıdakilerden hangisidir?

- A) Gazali B) Sokrates  
C) Farabi D) Hegel

9. John Locke'a göre insan zihni dünyaya boş bir levha (tabula rasa) olarak gelir. Tüm bilgilerimizin kaynağı deney ve alışkanlıklardır. İnsan zihninde, doğuştan gelen hiçbir bilgi ve düşünce yoktur.

Aşağıdakilerden hangisi John Locke'un düşüncesini dile getirir?

- A) Öğretmen yeni bir şey öğretmez, ancak akılda var olan bilgileri gün ışığına çıkarır.  
B) Başlangıçta boş olan zihin, deneyden gelen verilerle dolar.  
C) Tartışarak zihindeki bilgileri açığa çıkarabiliriz.  
D) İnsan zihni doğuştan bilgi ile donatılmıştır.

10. • Bilim bir üründür.  
• Bilim bir etkinliktir.

Verilenler bilim felsefesinin hangi sorusuna verilmiş yanıtlardır?

- A) Bilim nedir?  
B) Bilimsel yöntem nedir?  
C) Bilimin değeri nedir?  
D) Bilimsel bilginin özellikleri nelerdir?

11. İbni Sina "Kanun fi't tıp" adlı eseriyle aşağıdaki alanlardan hangisinde çalışmalar yapmıştır?

- A) Coğrafya B) Astronomi  
C) Tarih D) Tıp

12. Herhangi bir bilim dalında yapılan tüm etkinliklerin düzenli ve tutarlı hâle gelmesini sağlayan, belirli bir gerçekliğin algılanmasını ve açıklanmasını mümkün kılan "kavramsal çerçeve" aşağıdakilerden hangisiyle ifade edilir?

- A) Determinizm  
B) Paradigma  
C) Öndeyi  
D) Deney

## 1. OTURUM

13. Kant'a göre "deneysiz kavramlar boş, deneyden gelen hammadde ise kavramlar olmaksızın kördür."

**Kant bu sözüyle hangi düşünceleri birleştirmeye çalışmıştır?**

- A) Akılcılık - Deneycilik
- B) Kuşkuculuk - Akılcılık
- C) Olguculuk - Deneycilik
- D) Faydacılık - Kuşkuculuk

14. Bilim adamı kendi kişisel görüş, alışkanlık ve yargılarını araştırmalarına yansıtmemelidir.

**Bu durum bilimsel bilginin hangi özelliğini vurgulamaktadır?**

- A) Olgusal olmasını
- B) Evrenselliğini
- C) Objektif olmasını
- D) Yöntemsel olmasını

15. Olguların saptanması, gözlem, hipotez, deney, kuram

**Verilenler aşağıdakilerden hangisinin aşamalarıdır?**

- A) Bilimsel yöntemin
- B) Bilgi türlerinin
- C) Metafizik problemlerin
- D) Sanat felsefesinin

16. "Bilim gerçek dünya hakkında araştırma yapma etkinliğidir. Dünyadaki gerçekliğin tek bir bilimi olabilir. Konu alanı dar olan bilimler, konu alanı geniş kapsamlı olan bilimlerle birleştirilebilir." **düşüncesi aşağıdakilerden hangisine aittir?**

- A) Pragmatizm görüşüne
- B) Rasyonalizm görüşüne
- C) Bilginin kaynağı problemine
- D) Bilim felsefesinde klasik görüşe

17. **Aşağıdakilerden hangisi varlık felsefesinin sorularından değildir?**

- A) Varlık bir midir?
- B) Varlığın ana maddesi nedir?
- C) Varlık var mıdır?
- D) Bilginin kaynağı nedir?

18. **Varlık felsefesinde "hiçbir şeyin olmadığını" savunan görüş aşağıdakilerden hangisidir?**

- A) Realizm
- B) Nihilizm
- C) İdealizm
- D) Materyalizm

19. Ona göre, her varlık hatta ruh da bir cisimdir. Cisimlerin ortak özelliği ise harekettir. Hareket özelliğine bakarak maddenin varlığa nasıl geldiğini anlarız.

**Görüşleri verilen filozof aşağıdakilerden hangisidir?**

- A) Aristoteles
- B) Hegel
- C) Hobbes
- D) Farabi

20. **Descartes'e göre, varlığı meydana getiren cevherlerden "ruh" un fonksiyonu nedir?**

- A) Somut olma
- B) Düşünme
- C) Yer kaplama
- D) Görülebilir olma

### (122) FELSEFE – 2

1. **Aşağıdakilerden hangisi ahlak felsefesinin temel kavramlarından dandır?**

- A) Erdem
- B) İnanç
- C) Sanat
- D) İktidar

2. **İyi ile kötü arasında hiçbir baskı olmadan özgürce seçim yapabilen kişinin eylemlerinin doğuracağı sonuçları üstlenmesi aşağıdaki kavramlardan hangisiyle ifade edilir?**

- A) Erdem
- B) Vicdan
- C) Sorumluluk
- D) Ahlak Yasası

3. **Ahlaki eylemde bulunurken özgürlük sorununu ele alan indeterminist yaklaşıma göre insan eylemlerinde tamamen özgürdür; iyi, kötü, değerli, değersiz arasındaki seçimi kendi iradesiyle özgürce yapar.**

**Aşağıdakilerden hangisi indeterminist ahlak anlayışını ifade eder?**

- A) İnsan kararlarında tamamen toplumun etkisindedir.
- B) İnsan kendi istek ve seçimlerine göre davranır.
- C) Bireyin kararları ahlaki ilkelerle sınırlıdır.
- D) Her şey önceden belirlenmiştir.

4. **Egoizm başkalarını dikkate almadan yalnız kendini ve kendi çıkarını düşünmek anlamına gelir. Yaşamda en önemli şey, bireyin kendi mutluluğu ve başarısıdır.**

**Buna göre aşağıdakilerden hangisi egoizm düşüncesine ters düşer?**

- A) İnsanın sadece kendini düşünmesi
- B) Hayatta egemen olan şeyin kendi çıkarı olması
- C) İnsanın başkalarını düşündüğü ölçüde mutlu olması
- D) Yaşamda en değerli şeyin bireyin kendi başarısı olması

5. **Doğru eyleme sezgi ile ulaşabileceğini savunan filozof aşağıdakilerden hangisidir?**

- A) J. Paul Sartre
- B) T. Hobbes
- C) F. Nietzsche
- D) H. Bergson

6. **Sokrates'e göre ahlaki eylemin kaynağı aşağıdakilerden hangisidir?**

- A) Bilgi
- B) Toplum
- C) Duygular
- D) İstekler

7. **Hacı Bektaş Veli, ahlak yasasını aşağıdakilerden hangisi ile temellendirir?**

- A) Fayda
- B) Bilgi
- C) İnsan sevgisi
- D) Haz

8. **Aşağıdakilerden hangisi siyaset felsefesinin temel sorularından değildir?**

- A) Meşruiyetin ölçütü nedir?
- B) Sivil toplumun anlamı nedir?
- C) Bürokrasiden vazgeçilebilir mi?
- D) Ahlaki eylemin amacı var mıdır?

9. **Yasaya uygunluk, hukuka uygunluk anlamını taşıyan kavram aşağıdakilerden hangisidir?**

- A) İktidar
- B) Meşruiyet
- C) Egemenlik
- D) Yönetim



## 1. OTURUM

10. Sivil toplum, bireylerin devletin etki ve baskısının dışında kendilerini yönetebilmek, çıkarlarını savunabilmek için kurdukları örgütlerdir.

**Aşağıdakilerden hangisi sivil toplum örgütlerindedir?**

- A) Mahkemeler
- B) Bakanlıklar
- C) Sendikalar
- D) Meclis

11. **Aşağıdakilerden hangisi ideal düzeni belirleyen ölçütlerdendir?**

- A) Karmaşa
- B) Korku
- C) Adalet
- D) Baskı

12. **Platon** "Yöneticiler filozof ya da filozoflar yönetici olmalı" **sözünü yöneticilerin öncelikle hangi özelliğe sahip olması gerektiğini ileri sürmüştür?**

- A) Cesaretti olma
- B) Bilge olma
- C) İtaatkar olma
- D) Çalışkan olma

13. Yusuf Has Hacıb'e göre devlet, akla, adalete, doğru ve adil yasalara dayanmalıdır. Devlet bireyin gelişmesine katkıda bulunurken birey de erdemli olmaya çalışmalıdır.

**Bu açıklama aşağıdaki sorulardan hangisine yanıt niteliği taşımaktadır?**

- A) Birey - devlet ilişkisi nasıl olmalıdır?
- B) Bürokrasiden vazgeçilebilir mi?
- C) Yönetim biçimleri nelerdir?
- D) Sivil toplum nedir?

14. Ütopyalarda, toplumsal düzenin iyileştirilemeyeceğine inanılan düşünceler tarafından, gerçekleşmesi fazla mümkün olmayan düşsel bir toplum modeli olarak tasarlanarak var olan sisteme eleştiriden doğmuştur.

**Buna göre, ütopyalara ilişkin aşağıdakilerden hangisi söylenemez?**

- A) Zihinsel olduğu
- B) Düşsel bir toplum düzeni olduğu
- C) Mevcut sisteme eleştiri getirmesi
- D) Hayata hemen geçirilebilecek şekilde düzenlendiği

15. **Estetiğin konusu aşağıdakilerden hangisidir?**

- A) Bilgi
- B) Güzellik
- C) Bilim
- D) İnanç

16. **Aşağıdakilerden hangisi estetik yargıların özelliklerinden değildir?**

- A) Estetik yargılar bireyseldir.
- B) Estetik yargılar sübjektiftir.
- C) Estetik yargılar görelidir.
- D) Estetik yargılar "iyi-kötü" şeklinde değerlendirmelerdir.

17. **Bir sanat eserinin en temel işlevi aşağıdakilerden hangisidir?**

- A) İnsanda estetik bir duygu oluşturma
- B) Fayda amacı gütmesi
- C) Mutlak doğrulara ulaştırması
- D) Toplumsal kurallara uymayı sağlama

18. **Aşağıdakilerden hangisi din felsefesinin temel kavramlarından değildir?**

- A) İman
- B) Devlet
- C) Kutsal
- D) Vahiy

19. I. Teizm  
II. Panteizm  
III. Ateizm

**Yukarıda verilenlerden hangileri, Tanrı'nın varlığını kabul eden görüşlerdendir?**

- A) Yalnız I
- B) Yalnız II
- C) I ve II
- D) II ve III

20. Din felsefesi, genel olarak dini, dinle ilgili konuları eleştirel, akıl ilkelerine bağlı olarak ele alan felsefe dalıdır.

**Aşağıdakilerden hangisi din felsefesinin sorduğu sorulardan değildir?**

- A) Tanrının varlığı kanıtlanabilir mi?
- B) Vahiy mümkün müdür?
- C) Ruh ölümsüz müdür?
- D) En iyi yönetim şekli hangisidir?

(131) TARİH – 1

1. **Aşağıdakilerden hangisi tarih araştırmalarında kullanılan "yazılı" kaynaklardan biri değildir?**

- A) Paralar
- B) Efsaneler
- C) Anallar
- D) Biyografiler

2. **İlk Çağ'da Mısır'da;**

- Nil Nehri'nin taşma zamanının hesaplanması astronominin,
- Hayatın ölümden sonra da devam edeceğine olan inanç, ölümlerin mumyalanmasını gerekli kılmış, o da tıp ve eczacılık bilimlerinin gelişmesini sağlamıştır.

**Bu bilgilere göre Mısır'da görülen bilimsel gelişmelerde aşağıdakilerden hangisi etkili olmuştur?**

- A) Uluslararası ilişkiler
- B) Ekonomik uğraşlar
- C) Doğa ve dinî olaylar
- D) Tarımsal ve ticari faaliyetler

3. **Tarihte bilinen ilk kütüphaneyi kuran uygarlık, aşağıdakilerden hangisidir?**

- A) Asurlular
- B) Romalılar
- C) İyonyalılar
- D) Amurrular

4. **Sümerlerde bütün şehir devletlerini bir yönetim altında birleştirmiş olan krallara verilen unvan, aşağıdakilerden hangisidir?**

- A) Tavananna
- B) Lugal kalma
- C) Patesi
- D) Lugal

5. **Ünlü "Hammurabi Kanunları" nı hazırlayan Hammurabi, aşağıdaki hangi ülkenin hükümdarıdır?**

- A) Akad
- B) Sümer
- C) Elam
- D) Babil

6. **Anadolu uygarlıklarından olan Urartuların başkenti, aşağıdaki şehirlerden hangisidir?**

- A) Hattuşaş
- B) Gordion
- C) Tuşpa
- D) Uruk

## 1. OTURUM

7. • Asya kökenli kavimlerle Arabistan kökenli Samilerin karışımından oluşan bu kavim, MÖ 2000'lerde Mezopotamya'ya gelmiştir.  
• Ninova merkezli kurdukları devletlerini mutlak monarşi ile yönetmişlerdir.  
• Kral Yolu üzerinden Anadolu ile ticaret yapmışlar ve kurdukları ticari kolonilerle kullandıkları çivi yazısını Anadolu'ya getirmişlerdir.  
• MÖ 609'da Medler ve Babililer birleşerek bu devlete son vermişlerdir.
- Hakkında kısa bilgi verilen İlk Çağ uygarlığı, aşağıdakilerden hangisidir?**
- A) Amurrular B) Asurlular  
C) Akadlar D) Akalar
8. **Savaşçı bir topluluk olan İskitler, aşağıdaki dinlerden hangisini benimsemişlerdir?**
- A) Budizm B) İslamiyet  
C) Gök Tanrı D) Zerdüştlük
9. **I. Kök Türk Devleti'nin kurucusu, aşağıdakilerden hangisidir?**
- A) Bumin Kağan  
B) Mukan Kağan  
C) İstemi Yabgu  
D) Mete Han
10. Mete Han, bütün Çin ülkesini egemenliği altına alabilecek güce sahip olduğu hâlde bunu yapmamıştır.
- Mete Han'ın böyle davranmasında etkili olan neden, aşağıdakilerden hangisidir?**
- A) Çin'in denizlere kıyısı olması  
B) Çin'in son derece geniş topraklara sahip olması  
C) Çin ordusunun Türk ordusundan daha kalabalık olması  
D) Çok kalabalık olan Çin nüfusu içerisinde Türklerin benliklerini yitireceği endişesi
11. **Aşağıdaki yer isimlerinden hangisi adını Sabir Türklerinden almıştır?**
- A) Sibiryա B) Sicilya  
C) Silistre D) Selenga
12. **Tunguzların, Hun - Tunguz sınırında bulunan ve kullanılmayan boş toprağı istemeleri üzerine "Devletin temeli olan toprağı biz nasıl verebiliriz?" diyerek Tunguzların isteğıne karşı çıkan ve Tunguzlarla savaşan Hun hükümdarı, aşağıdakilerden hangisidir?**
- A) Mete B) Çi-Çi  
C) Ki-ok D) Teoman
13. **Aşağıdaki destanlardan hangisi Türk devletlerine ait değildir?**
- A) Şu B) Manas  
C) Gılgamış D) Alp Er Tunga
14. **Yerleşik hayata geçen ilk Türk topluluğı, aşağıdakilerden hangisidir?**
- A) Kırgızlar B) Uygurlar  
C) Kumanlar D) Peçenekler
15. **Kırgızların Ötüken bölgesini terk etmelerinin nedeni, aşağıdakilerden hangisidir?**
- A) Kavimler Göçü  
B) Talas Savaşı'nda Çinlilerin yenilmesi  
C) Uygurların Doğı Asya dinlerini benimsemeleri  
D) Kitanlarla girdikleri askerî mücadeleyi kaybetmeleri
16. **Bir tarihî olaya dâhil olan kişilerin, olaydaki rollerini ve olaya katkılarını doğru olarak anlayıp değerlendirebilmek için, aşağıdakilerden hangisinin göz ardı edilmemesi gerekir?**
- A) Olayın, başka olaylarla benzer yönleri  
B) Olaylarla ilgili yapılan yorumlar  
C) Olayın geçtiğı zamanın koşulları  
D) Olayın hangi kıtada gerçekleştiğı
17. **Herodot'un tarih biliminin öncüsü olarak kabul edilmesinde, aşağıdakilerden en çok hangisinin etkili olduğu savunulabilir?**
- A) Eski Çağ'da yaşamış olması  
B) Olayların geçtiğı yerleri gezip görmesi  
C) Tarihî olayları kronolojik olarak sıralaması  
D) Eserini araştırarak ve yansız olmaya çalışarak yazması
18. **İlk şehir devletleri, aşağıdaki dönemlerin hangisinde ortaya çıkmıştır?**
- A) Tunç Devri  
B) Demir Devri  
C) Neolitik Devir  
D) Mezolitik Devir
19. **I. Tarihî olay ile ilgili verileri sınıflandırma  
II. Verileri zaman, yer ve konularına göre ayırma  
III. Elde edilen bilgi ve verilerin kaynak değeri açısından yeterli olup olmadığının belirleme**
- durumlarından hangileri tarih biliminin yöntemleri arasında gösterilebilir?**
- A) Yalnız I B) Yalnız III  
C) I ve II D) I, II ve III
20. **Yüzyıl olarak okunuşu "Milattan Sonra 7. yüzyılın 1. yarısının 2. çeyreğı" olan yıl, aşağıdakilerden hangisidir?**
- A) MS 719 B) MS 751  
C) MS 626 D) MS 691

(132) TARİH – 2

1. **Aşağıdakilerden hangisi, Hz. Ali'nin halifeliğı döneminde meydana gelmiştir?**
- A) Hicret  
B) Hakem Olayı  
C) Zatü's Savari Savaşı  
D) İran'ın fethinin tamamlanması
2. **Araplar, aşağıdaki hangi uygarlığın rakamlarını matematik biliminde kullanmışlardır?**
- A) Hint B) Çin  
C) İran D) Yunan
3. **Aşağıdakilerden hangisi, Türklerin Emevilerle savaşmalarının sonuçlarından biridir?**
- A) Türklerin İslam ile tanışmalarının gecikmesi  
B) Kök Türklerin Orhun Yazıtlarını dikmesi  
C) Türklerin Orta Asya'dan göç etmeleri  
D) Uygurların yerleşik hayata geçmesi

## 1. OTURUM

4. Abbasi halifesi Memun tarafından Bağdat'ta kurulan "Beytül - Hikme" (Hikmet Evi) denilen kurumda "tercüme bürosu" nun bulunması, aşağıdakilerden hangisine kanıttır?
- A) Okumaya önem verildiğine  
B) Ülkeler arası ticaretin geliştiğine  
C) Başka dillerde yazılmış eserlerin Arapçaya çevrildiğine  
D) Halk arasında okuryazar oranını yükseltmek istendiğine
5. Karahanlıların aşağıdaki özelliklerinden hangisi onların "ulusçu" bir devlet anlayışına sahip olduklarının bir göstergesidir?
- A) Medreseler açmaları  
B) Kervansaraylar inşa etmeleri  
C) İslamiyet'i devlet dini olarak benimsemeleri  
D) Türkçeyi devlet ve toplum hayatında kullanmaları
6. Aşağıdaki eserlerden hangisi İslami Türk edebiyatının sözlü ürünlerindedir?
- A) Divan-ı Hikmet  
B) Atabetü'l Hakayık  
C) Divan-ı Lügat-it Türk  
D) Satuk Buğra Han Destanı
7. Aşağıdaki devletlerden hangisi Büyük Selçuklu Devleti ile çağdaş değildir?
- A) Emeviler  
B) Gazneliler  
C) Karahanlılar  
D) Harzemşahlar
8. Büyük Selçuklu Devleti'nin Bizans'a karşı kazandığı ilk büyük zafer, aşağıdakilerden hangisidir?
- A) Ankara B) Pasinler  
C) Malazgirt D) Dandanakan
9. "Rasathane" kavramı, aşağıdaki hangi bilim dalının alanıyla ilgili bir terimdir?
- A) Kimya B) Kelam  
C) Astronomi D) Matematik

10. Aşağıdakilerden hangisi Haçlı Seferleri'nin sonuçlarından biri değildir?
- A) Akdeniz'de ticaret gelişti.  
B) Din adamlarına olan güven sarsıldı.  
C) Anadolu'nun kapıları Türklere açıldı.  
D) Avrupalılar pusula, barut ve kâğıt yapımını Müslümanlardan öğrendi.
11. I. Türkiye Selçukluları ile birlikte Eskişehir yakınlarında Haçlılara karşı mücadele ettiler.  
II. Emir İshak Bey'in ölümünden sonra Erzincan ve Divriği olmak üzere iki kola ayrıldı.  
III. Malabadi Köprüsü bu beylikten günümüze kalan mimari eserlerden biridir.  
IV. Ahmet Gazi tarafından Sivas merkez olmak üzere 1080 yılında kuruldu.

Verilen bilgilerden hangileri Danişmentli Beyliği ile ilgilidir?

- A) Yalnız I B) II ve III  
C) III ve IV D) I ve IV
12. Çaka Bey'in kızıyla evlenen Türkiye Selçuklu hükümdarı, aşağıdakilerden hangisidir?
- A) I. Mesut  
B) I. Kılıç Arslan  
C) II. Kılıç Arslan  
D) I. Alâeddin Keykubat
13. Aşağıdakilerden hangisi Anadolu'nun kesinlikle Türk yurdu olmasını sağlamıştır?
- A) Miryokefalon Savaşı'nın kazanılması  
B) Türkiye Selçuklu Devleti'nin kurulması  
C) Malazgirt Savaşı'nda Bizans'ın yenilmesi  
D) Kutsal emanetlerin Mısır'dan İstanbul'a getirilmesi
14. Selçuklularda aşağıdaki hangi arazinin gelirleri hükümdara bırakılırdı?

- A) İktâ arazi  
B) Has arazi  
C) Mülk arazi  
D) Vakıf arazisi

15. Aşağıdaki mimari eser - şehir eşleştirmelerinden hangisi doğrudur?

- A) I. İzzeddin Keykavus  
Darüşşifası - Erzurum  
B) Sırçalı Medrese - Kayseri  
C) Döner Kümbet - Konya  
D) Sultan Hanı - Aksaray

16. I. Hattiler  
II. Himyeriler  
III. Tedmürlüler  
IV. Samaniler

Verilen devletlerden hangileri Arap Yarımadası'nda kurulmuştur?

- A) Yalnız I B) I ve II  
C) II ve III D) I, III ve IV

17. Hz. Muhammed'in vekili olarak Müslümanların imamlığını ve şeriatın koruyuculuğunu yapmakla görevli olan kimseye ne ad verilir?

- A) Emir B) Kadı  
C) Sultan D) Halife

18. İslam Devleti'nde ilk hazine (Beyt'ül Mal), aşağıdaki hangi halife döneminde kurulmuştur?

- A) Hz. Ali  
B) Hz. Ömer  
C) Hz. Osman  
D) Hz. Ebu Bekir

19. Endülüs Emevi Devleti, aşağıdaki ülkelerden hangisinde kurulmuştur?

- A) İtalya B) Mısır  
C) İspanya D) Fransa

20. İslam Devleti'ne, aşağıdaki şehirlerden hangisi başkentlik yapmamıştır?

- A) Şam B) Medine  
C) Bağdat D) Semerkant

(133) TARİH - 3

1. Osmanlı Devleti'nin ikinci kucusu sayılan Osmanlı padişahı, aşağıdakilerden hangisidir?

- A) I. Mehmet B) II. Mehmet  
C) I. Bayezit D) I. Murat

## 1. OTURUM

2. Orta Çağ, Yeni Çağ ve Yakın Çağ boyunca bağımsızlığını koruyan devlet, aşağıdakilerden hangisidir?
- A) Bizans B) Osmanlı  
C) Memlûk D) Büyük Selçuklu
3. Görevi müderrisleri ve kadınları atamak; adalet, eğitim ve kültür işlerine bakmak olan Divanihümayun üyesi, aşağıdakilerden hangisidir?
- A) Kaptanıderya  
B) Defterdar  
C) Kazasker  
D) Nişancı
4. Aşağıdakilerden hangisi dirlik topraklarından değildir?
- A) Has B) Tımar  
C) Zeamet D) Mukataa
5. Osmanlı Devleti'nde iç ticaretin gelişmesinin nedenleri arasında aşağıdakilerden hangisi yoktur?
- A) Yabancı tüccarlara ticarî ayrıcalıklar tanınması  
B) Tüccarlara çeşitli vergi kolaylıklarının sağlanması  
C) Ticaret yollarının güvenlik altına alınması  
D) Ticaretin devlet tarafından özendirilmesi
6. Osmanlı padişahları "Hüdavendigâr" unvanını, aşağıdaki hangi padişahla birlikte kullanmaya başlamışlardır?
- A) I. Murat B) Orhan Bey  
C) II. Mehmet D) I. Süleyman
7. Amasra'yı Cenevizlilerden alan Osmanlı padişahı, aşağıdakilerden hangisidir?
- A) Kanuni Sultan Süleyman  
B) Yavuz Sultan Selim  
C) Yıldırım Bayezit  
D) Fatih Sultan Mehmet
8. Osmanlılarda gelirleri sınır boylarındaki askerlere verilen topraklar, aşağıdakilerden hangisidir?
- A) Paşmaklık B) Mukataa  
C) Ocaklık D) Yurtluk
9. Osmanlı donanması, aşağıdaki hangi padişah döneminde Trabzon İmparatorluğu'nu tehdit edecek bir güce ulaşmıştır?
- A) II. Murat B) II. Osman  
C) II. Mehmet D) II. Süleyman
10. Celali İsyanları, Osmanlı Devleti'nde hangi yüzyılda yoğun olarak yaşanmıştır?
- A) 15. yy B) 17. yy  
C) 18. yy D) 20. yy
11. Aşağıdakilerden hangisi Yavuz Sultan Selim Dönemi olaylarından biri değildir?
- A) Memluk Devleti'nin hâkimiyetine son verilmesi  
B) Kutsal Emanetlerin İstanbul'a getirilmesi  
C) I. Viyana Kuşatması  
D) Çaldıran Savaşı
12. Karlofça Antlaşması'yla Osmanlı Devleti'nden toprak almayan Kutsal İttifak devleti, aşağıdakilerden hangisidir?
- A) Malta B) Venedik  
C) Lehistan D) Avusturya
13. Aşağıdakilerden hangisi, Osmanlı Devleti'nin 17. yüzyılda savaştığı devletlerden biri değildir?
- A) İran B) Fransa  
C) Lehistan D) Avusturya
14. Hümanizm akımının aşağıdakilerden hangisine karşı olduğu söylenebilir?
- A) Bilime  
B) Ticari faaliyetlere  
C) Skolastik düşünceye  
D) Bilimsel çalışmalara
15. Osmanlı Devleti'nin batıda toprak kazandığı son antlaşma, aşağıdakilerden hangisidir?
- A) Bucaş B) Hotin  
C) Vasvar D) Karlofça
16. Osmanlı Devleti'ni kuran Osmanlı ailesi, Oğuzların hangi boyuna mensuptur?
- A) Bayındır B) Bayat  
C) Kınık D) Kayı
17. Aşağıdakilerden hangisi, Osmanlı Beyliği'nin kısa sürede gelişmesini sağlayan nedenlerden biri değildir?
- A) Başarılı bir iskân siyaseti uygulanması  
B) Kurulduğu bölgenin coğrafi konumunun elverişli olması  
C) Egemenlikleri altındaki milletlere baskıcı yönetim uygulamaları  
D) Başlangıçta Anadolu Türk beylikleri arasındaki mücadeleye katılmamaları
18. Aşağıdaki yerlerden hangisi Osman Bey Dönemi'nde fethedilmemiştir?
- A) İnegöl B) Bursa  
C) Bilecik D) Yarhisar
19. I. Kıbrıs'ın Fethi  
II. Niğbolu Savaşı  
III. I. Viyana Kuşatması  
IV. Edirne – Segedin Antlaşması  
Osmanlı tarihi ile ilgili yukarıda verilen olayların kronolojik sıralanışı, hangi seçenekte doğru verilmiştir?
- A) II - III - IV - I  
B) I - II - IV - III  
C) II - IV - III - I  
D) IV - I - II - III
20. Osmanlı Devleti'ne başkentlik yapmış olan aşağıdaki yerlerden hangisi, Sazlıdere Savaşı sonucunda ele geçirilmiştir?
- A) İstanbul B) Bursa  
C) Bilecik D) Edirne

## 1. OTURUM

(134) TARİH – 4

1. Osmanlı Devleti'nde ilk Türk matbaası hangi yıl açılmıştır?

- A) 1718 B) 1727  
C) 1730 D) 1740

2. Getirdiği değişikliklerle Yakın Çağ'ın başlangıcı sayılan tarihî gelişme, aşağıdakilerden hangisidir?

- A) Fransız İhtilali  
B) Kavimler Göçü  
C) Sanayi İnkılabı  
D) İstanbul'un fethi

3. Boğazlar, aşağıdakilerden hangisi ile ilk defa uluslararası bir statü kazanmıştır?

- A) Sevr Barış Antlaşması  
B) Hünkâr İskeleyi Antlaşması  
C) Londra Boğazlar Sözleşmesi  
D) Montrö Boğazlar Sözleşmesi

4. Aşağıdakilerden hangisi padişah III. Selim Dönemi gelişmelerinden değildir?

- A) Avrupa devletlerinin önemli merkezlerinde daimî elçiliklerin açılması  
B) Rusya ile Yaş Antlaşması'nın imzalanması  
C) Nizamıcedit ordusunun kurulması  
D) İlk Türk matbaasının açılması

5. Avusturya, aşağıdaki hangi antlaşmadan sonra Osmanlı Devleti'yle barış politikası izleme kararı vermiştir?

- A) Zıştovi B) Vasvar  
C) Belgrad D) Pasarofça

6. Aşağıdakilerden hangisi Sanayi İnkılabı'nın sonuçlarından biri değildir?

- A) Pozitif düşüncenin gelişmesi  
B) Küçük atölyelerin kapanması  
C) Sendikaların kurulması  
D) Refahın artması

7. Osmanlı halkı, aşağıdaki dönemlerin hangisinde devlet yönetimine katılmaya başlamıştır?

- A) Lale Devri  
B) Kuruluş Devri  
C) Tanzimat Devri  
D) Meşrutiyet Devri

8. Aşağıdaki dağılmayı önleme çabalarından hangisi, yeni Türk devletinin temel taşlarından birini oluşturmuştur?

- A) Batıcılık B) İslamcılık  
C) Turancılık D) Osmanlıcılık

9. Tanzimat Fermanı'yla yenilik yapılmayan alan, aşağıdaki hangisidir?

- A) Hukuk B) Tarım  
C) Yönetim D) Askerlik

10. Türk tarihinde "Vakayihayriye" (Hayırlı Olay) olarak bilinen olay, aşağıdakilerden hangisidir?

- A) Asakirimansureimuhammediye Ordusu'nun kurulması  
B) 31 Mart Olayı'nın bastırılması  
C) II. Meşrutiyet'in ilan edilmesi  
D) Yeniçeri Ocağı'nın kaldırılması

11. Aşağıdakilerden hangisi, Osmanlı Devleti'nin âyanlara söz geçiremeyecek hâle geldiğinin göstergesidir?

- A) Senediittifak'ın imzalanması  
B) Tanzimat Fermanı'nın ilanı  
C) Mecelle'nin hazırlanması  
D) Islahat Fermanı'nın ilanı

12. 31 Mart Olayı'nı bastıran ordunun adı, aşağıdakilerden hangisidir?

- A) Kuvayımilliye birlikleri  
B) Kuvayıinzibatiye  
C) Hareket Ordusu  
D) 7. Ordu

13. I. Dünya Savaşı'nın cephelerinden olan Kanal Cephesi, aşağıdakilerden hangisinin isteği üzerine açılmıştır?

- A) İngiltere'nin B) Almanya'nın  
C) Fransa'nın D) İtalya'nın

14. Aşağıdakilerden hangisi, I. Dünya Savaşı'nın sonunda imzalanan Sen Jermen Antlaşması ile bağımsız bir devlet olarak ortaya çıkmıştır?

- A) Kosova B) Karadağ  
C) Arnavutluk D) Çekoslovakya

15. İtilaf Devletleri, I. Dünya Savaşı'nı bitiren antlaşmalardan biri olan Sevr Antlaşması'nı, aşağıdaki hangi İttifak Devleti ile imzalamıştır?

- A) Osmanlı  
B) Almanya  
C) Bulgaristan  
D) Avusturya - Macaristan

16. XVIII. yüzyılın ikinci yarısında Dakya Projesi'ni hazırlayan devletler, aşağıdakilerin hangisinde birlikte verilmiştir?

- A) Fransa - Rusya  
B) Almanya - İtalya  
C) İngiltere - Fransa  
D) Rusya - Avusturya

17. "Aydınlanma Çağı" adı verilen yüzyıl, aşağıdakilerden hangisidir?

- A) XVI. yüzyıl B) XVII. yüzyıl  
C) XVIII. yüzyıl D) XIX. yüzyıl

18. Karadeniz'in Osmanlıya ait olduğunu belirten en son antlaşma, aşağıdakilerden hangisidir?

- A) Zıştovi Antlaşması  
B) Belgrad Antlaşması  
C) Ayastefanos Antlaşması  
D) Küçük Kaynarca Antlaşması

## 1. OTURUM

19. Osmanlı Devleti'ndeki azınlık ayaklanmalarının çıkmasında, Avrupa'da yaşanan aşağıdaki gelişmelerden hangisi etkili olmuştur?

- A) Rönesans
- B) Fransız İhtilali
- C) Sanayi İnkılabı
- D) Reform hareketleri

20. Osmanlı Devleti, Kırım'ın Rusya'ya ait olduğunu aşağıdaki hangi antlaşma ile kabul etmiştir?

- A) Yaş
- B) Prut
- C) Zıştovi
- D) Küçük Kaynarca

(135) TARİH – 5

### 1. Kavimler Göçü sonunda;

- Avrupa'daki kavimlerin birbirleriyle karışıp kaynaşması sonucunda bugünkü Avrupa milletlerinin temelleri atılmıştır.
- Batı Roma İmparatorluğu'nun yıkılmasıyla Avrupa'da yaşanan otorite boşluğu, eyaletlerde yönetimi ellerinde bulunduran soyluların bağımsız hareket etmelerine, bu durum da feodalite rejiminin ortaya çıkmasına yol açmıştır.
- Avrupa'ya yerleşen Türkler, burada devletler kurmuşlardır.

### Bu sonuçların Avrupa'yı;

- I. siyasal
- II. kültürel
- III. sosyal
- IV. dinsel

### açılardan hangisinde etkilediği söylenebilir?

- A) Yalnız I
- B) I ve IV
- C) I, II ve III
- D) II, III ve IV

2. Karluklar ve Basmillerle birleşerek Kutluk Devleti'ne son veren Türk topluluğu, aşağıdakilerden hangisidir?

- A) Uygurlar
- B) Hazarlar
- C) Hunlar
- D) Karahanlılar

3. Aşağıdakilerden hangisi, Uygur hükümdarı Böğü Kağan'ın devletin resmî dini olarak kabul ettiği Mani dininin Uygur Türklerinin hayatındaki etkilerinden biri değildir?

- A) Yerleşik yaşama geçmeleri
- B) Savaşçı ruhlarını geliştirmeleri
- C) Beslenme alışkanlıklarını değiştirmeleri
- D) Bilim ve sanatta önemli eserler meydana getirmeleri

4. "Büyük Hun Devleti'nin yıkılmasından sonra Afganistan'ın kuzeyine yerleşen Hunlar, burada - - - -'ni kurmuşlardır."

Verilen cümlede boş bırakılan yere aşağıdakilerden hangisi yazılırsa, bilgi doğru olur?

- A) Akhun Devleti
- B) Asya Hun Devleti
- C) Avrupa Hun Devleti
- D) Tuna Bulgar Devleti

5. Dünya'nın en eski halısı olan "Pazırık Halısı", bugün aşağıdaki müzelerin hangisinde sergilenmektedir?

- A) Londra Ulusal Galerisi
- B) İstanbul Topkapı Müzesi
- C) Leningrad Hermitaj Müzesi
- D) San Francisco Modern Sanatlar Müzesi

6. İlk Türk devletlerinde hükümdar çocuklarına verilen unvan, aşağıdakilerden hangisidir?

- A) Katun
- B) Tigin
- C) Yabgu
- D) Şaman

7. İlk Türk devletlerinde aşağıdakilerden hangisi görülmez?

- A) Onlu sistem
- B) Kut anlayışı
- C) Cihat anlayışı
- D) İkili yönetim sistemi

8. "Orta Asya'da bulunan ve - - - - adı verilen yerlerde yapılan arkeolojik kazılar sonucunda ilk Türkler ile ilgili önemli bilgiler öğrenilmiştir."

Verilen bilgi cümlesinin doğru olabilmesi için boş bırakılan yere, aşağıdakilerden hangisi yazılmalıdır?

- A) kut
- B) kopuz
- C) külliye
- D) kurgan

9. Bazı tarihçilerce "Orta Çağ", aşağıdaki olaylardan hangisiyle başlar?

- A) İstanbul'un fethiyle
- B) Kavimler Göçü'yle
- C) Yazının bulunmasıyla
- D) Hz. Muhammed'in doğumuyla

10. Aşağıdaki görevlilerden hangisi ilk Türk devletlerinde ülkenin denetim ve vergi işleriyle ilgilendirirdi?

- A) Üge
- B) Tutuk
- C) Tudun
- D) Aygucı

11. Aşağıdakilerden hangisi ilk Türk devletlerindeki toplum yapısının özelliklerinden biri değildir?

- A) Kölelik anlayışı yoktur.
- B) Dinî özgürlük vardır.
- C) Töreye bağlıdır.
- D) Asillik vardır.

12. "İtalyan misyonerler, Kumanlar arasında hem dinî propagandayı kolaylaştırmak hem de ticaret ve pratik hayatta kullanılmak üzere 2500 Kumanca sözcük içeren büyükçe bir sözlük hazırlamışlardır."

Verilen bilgide sözü edilen sözlük, aşağıdakilerden hangisidir?

- A) Altun Yaruk
- B) Kelile ve Dimne
- C) Codex Cumanicus
- D) Muhakemet'ül Lûgateyn

## 1. OTURUM

13. Türkler, Sasani Devleti'nin 642 yılında yıkılmasından sonra batıya doğru yaptıkları göçlerde hangi toprakları kullanmaya başlamışlardır?

- A) İran B) Mısır  
C) Bulgaristan D) Hindistan

14. Aşağıdaki destanlardan hangisi Uygurlara aittir?

- A) Şu B) Göç  
C) Manas D) Ergenekon

15. Müslüman Araplar, Hazarların başkentini hangi yıl kuşatma altına alarak Hazar hakanını barış istemek zorunda bırakmışlardır?

- A) 632 B) 656  
C) 737 D) 751

16. • Orta Asya'nın en eski kültürüdür.  
• Bugünkü Türkmenistan'ın başkenti Aşkabat yakınlarında ortaya çıkarılmıştır.  
• Kazılar sonucunda dokuma parçaları, nakışlı seramik parçaları ve süs eşyaları ele geçmiştir.

**Bazı özellikleri verilen Orta Asya kültürü, aşağıdakilerden hangisidir?**

- A) Anav B) Tagar  
C) Karasuk D) Andronova

17. Aşağıdaki bilgilerden hangisi İskitlerle ilgili değildir?

- A) Gök Tanrı inancına sahiptirler.  
B) "Bozkırın Kuyumcuları" olarak tanınırlar.  
C) Persler tarafından "Sakalar" olarak adlandırılmışlardır.  
D) Mezopotamya toprakları, İskitlerin yoğun olarak yaşadığı yerdir.

18. Bir kültürün oluşmasında, aşağıdakilerden hangisinin rolü yoktur?

- A) İnsanların ihtiyaçları  
B) Uluslararası antlaşmalar  
C) İnsanların doğa ile olan ilişkileri  
D) İçinde yaşanılan coğrafyanın özellikleri

19. Aşağıdakilerden hangisi, ilk Türk devletlerinde hükümdarın egemenliğini temsil eden sembollerden biri değildir?

- A) Tuğ B) Otağ  
C) Gürz D) Örgin

20. Aşağıdakilerden hangisi Kök Türklerle ait bir özellik değildir?

- A) Kitabeler dikmeleri  
B) İpek Yolu'nu denetim altına almaları  
C) Kendilerine ait bir alfabe oluşturmaları  
D) Orta Asya'da kurulmuş ilk Müslüman Türk devleti olmaları

### (136) TARİH – 6

1. Türk - İslam devletlerindeki saray görevlilerinden biri olan "câmedar"ın görevi, aşağıdakilerin hangisinde doğru verilmiştir?

- A) Sarayı korumak  
B) Silahhane denilen imalathaneyi yönetmek  
C) Hükümdarın atlarına ve sarayda bulunan diğer hayvanlara bakmak  
D) Hükümdar ve diğer saray görevlilerinin elbiselerini ve resmî kıyafetlerini hazırlamak

2. • Timur Devleti hükümdarlarından biri olup, aynı zamanda da astronomi bilginidir.  
• Timur hükümdarlarından Timur'un torunu, Şahruh'un oğludur.  
• Semerkant'ta yaptırdığı rasathane gözlemlerde bulunmuştur.  
• "Yıldızların Fihrist Cetvelleri" adlı eseriyle ünlüdür.

**Hakkında kısa bilgi verilen hükümdar ve bilim adamı, aşağıdakilerden hangisidir?**

- A) Uluğ Bey  
B) Ali Kuşçu  
C) Çaka Bey  
D) Hüseyin Baykara

3. Malazgirt Savaşı'nı kazanarak Anadolu kapılarını Türklere açan Büyük Selçuklu hükümdarı, aşağıdakilerden hangisidir?

- A) Sencer B) Melikşah  
C) Tuğrul Bey D) Alp Arslan

4. Aşağıdaki savaşlardan hangisi Selçuklularla Bizanslılar arasında yapılan ilk savaş olma özelliği taşır?

- A) Katvan B) Köseadağ  
C) Pasinler D) Malazgirt

5. Aşağıdaki Türk devletlerinden hangisi, İslamiyet'in Hindistan'da yayılmasında etkili olmuştur?

- A) Gazneliler  
B) Karahanlılar  
C) Tolunoğulları  
D) Harzemşahlar

6. İbn-i Sina'nın aşağıdaki eserlerinden hangisi, Tokatlı Mustafa Bin Ahmet adlı bir doktor tarafından 18. yüzyılda Türkçeye çevrilmiştir?

- A) Eş-Şifa  
B) En-Necat  
C) Lisân-ül Arap  
D) El Kanun fi't - Tıp

7. Aşağıdaki devletlerden hangisinin kurucuları kendilerinin Hz. Fâtıma ve Hz. Ali yoluyla Hz. Peygamber'in soyundan geldiklerini iddia ederler?

- A) Fatımîler B) Samanîler  
C) Eyyubiler D) Memlûkler

8. Babür hükümdarı Şah Cihan'ın Agra şehrinde karısı Mümtaz Mahal için yaptırdığı ünlü mimari eserin adı, aşağıdakilerden hangisidir?

- A) Hümayun Türbesi  
B) Moti Mescidi  
C) Delhi Kalesi  
D) Tac Mahal

## 1. OTURUM

9. Türk - İslam sanatında ortaya çıkıp gelişen, silindirik ya da çokgen planlı bir gövde üzerine oturan konik veya piramidal bir külahtan oluşan mezar yapılarına ne ad verilir?
- A) İmaret B) Kümbet  
C) Nevbet D) Mabet
10. İlhanlıları 1260 yılında Ayn-ı Calüd Savaşı'nda yenen devlet, aşağıdakilerden hangisidir?
- A) Gazne B) Babür  
C) Memlûk D) Harzemşahlar
11. Aşağıdaki devletlerden hangisi Timur Devleti'nin hâkimiyetine son vermiştir?
- A) Fatımîler B) Eyyubiler  
C) Samanîler D) Şeybanîler
12. Günümüze kadar gelebilen Türkistan'daki minarelerin çoğu, aşağıdaki hangi devletten kalmadır?
- A) Karahanlı B) Selçuklu  
C) Gazne D) Uygur
13. 1258 yılında Moğollar, aşağıdaki şehirlerden hangisini yakıp yıkarak Abbasi Devleti'ne son vermişlerdir?
- A) İsfahan B) Buhara  
C) Bağdat D) Şam
14. Cengiz Han ölmeden önce, aşağıdaki oğullarından hangisinin hükümdar olmasını vasiyet etmiştir?
- A) Cuci B) Tuluy  
C) Çağatay D) Ögeday
15. Kurulduğu bölgeden dolayı Türkleşmeyen ve İslamiyet'i kabul etmeyen tek Moğol devleti, aşağıdakilerden hangisidir?
- A) İlhanlı Devleti  
B) Kubilay Hanlığı  
C) Çağatay Hanlığı  
D) Altın Orda Devleti

16. Arabistan Yarımadası ile Afrika Kıtası arasındaki denizin adı, aşağıdakilerden hangisidir?
- A) Akdeniz B) Umman Denizi  
C) Kızıldeniz D) Karayib Denizi
17. Hz. Muhammed, bir dostluk ve saldırmazlık antlaşması olan "Medine Sözleşmesi"ni, aşağıdakilerden hangisiyle yapmıştır?
- A) Sasanilerle  
B) Medineli Yahudilerle  
C) Bizans İmparatorluğu'yla  
D) Suriye'deki Hristiyan Gassanilerle
18. Aşağıdakilerden hangisi Talas Savaşı'nın sonuçları için söylenemez?
- A) Çin, Orta Asya'yı egemenliği altına almıştır.  
B) Asya'da İslam - Arap egemenliği başlamıştır.  
C) Türklerle Araplar arasında ticari ilişkiler gelişmiştir.  
D) Araplar, Çinlilerden kâğıt imal etmeyi öğrenmişlerdir.
19. Edip Ahmet Yükneki tarafından yazılan ve içeriğini dinî ve ahlaki konuların oluşturduğu eğitici, öğretici ahlak kitabının adı, aşağıdakilerden hangisidir?
- A) Divan-ı Lügat-it Türk  
B) Atabetü'l Hakayık  
C) Divan-ı Hikmet  
D) Siyasetname
20. Karahanlılar, aşağıdaki hükümdarlarından hangisinin döneminde İslamiyet'i kabul etmişlerdir?
- A) Arslan Bazır  
B) Musa Baytaş  
C) Satuk Buğra Han  
D) Bilge Kül Kadir Han

(141) T.C. İNK. TAR. VE ATA. - 1

1. Kuvayımiliye Hareketi, başlangıçta hangi devletin Anadolu'daki işgaline karşı bir tepki olarak ortaya çıkmıştır?
- A) Fransa B) Romanya  
C) İtalya D) Yunanistan
2. Aşağıdaki cemiyetlerden hangisi İzmir, Batı Anadolu ve Doğu Trakya'nın Yunanistan'a bağlayarak "Megola İdea"yı yani Bizans İmparatorluğu'nu yeniden kurmayı amaçlamıştır?
- A) Hınçak Cemiyeti  
B) Taşnak Cemiyeti  
C) Mavri Mira Cemiyeti  
D) Etnik-i Eterya Cemiyeti
3. Anadolu Hareketi'nin temsilcisi olan Temsil Heyeti, aşağıdakilerden hangisiyle İstanbul Hükûmetince resmen tanınmıştır?
- A) Amasya Görüşmeleriyle  
B) Amasya Genelgesi'yle  
C) Erzurum Kongresi'yle  
D) İzmir'in işgaliyle
4. Hıyanet-i Vataniye Kanunu'nun çıkarılmasında, aşağıdakilerden hangisi etkili olmuştur?
- A) Halifeliğin kaldırılması  
B) Cumhuriyetin ilan edilmesi  
C) Kadın haklarının iyileştirilmesi  
D) TBMM'ye karşı doğabilecek tehlikelerin önlenmesi
5. Doğu illerinde kurulmuş bulunan millî cemiyetler, aşağıdakilerin hangisinde "Şark Vilayetleri Müdafaa-i Hukuk Cemiyeti" çatısı altında toplanmıştır?
- A) Sivas Kongresi'nde  
B) Havza Genelgesi'nde  
C) Erzurum Kongresi'nde  
D) Amasya Genelgesi'nde



## 1. OTURUM

6. TBMM Hükûmeti, uluslararası alanda ilk başarısını, aşağıdaki hangi antlaşmayla sağlamıştır?

- A) Uşi B) Kars  
C) Gümrü D) Moskova

7. Aşağıdakilerden hangisi, Türkiye Büyük Millet Meclisine karşı çıkan ayaklanmaların nedenlerinden biri değildir?

- A) Azınlıkların Avrupa devletlerinin tahriki ile buldukları bölgelerde bağımsız devlet kurmak istemeleri  
B) İstanbul Hükûmetince halkın dinî duygularının istismar edilmesi  
C) Bazı Kuvayımillîye birliklerinin halka baskı yapması  
D) Amasya Genelgesi'nin yayımlanmasına gösterilen tepkiler

8. Aşağıdakilerden hangisi, Millî Mücadele'nin Batı Cephesi muharebeleri arasında yer almaz?

- A) Kütahya - Eskişehir  
B) Çanakkale  
C) İ. İnönü  
D) Sakarya

9. Aşağıdakilerden hangisi ilk meclisin özelliklerindendir?

- A) Mecliste tek bir parti yer almaktadır.  
B) Güçler ayrılığı ilkesi benimsenmiştir.  
C) Milletvekillerini Mustafa Kemal seçmiştir.  
D) Üyelerinin tamamı Türklere oluşturmaktadır.

10. Aşağıdakilerden hangisi, I. İnönü Muharebesi'nin sonuçlarından biridir?

- A) Eskişehir, Kütahya ve Afyon'un Yunanlıların eline geçmesi  
B) Mustafa Kemal'e karşı muhalefetin artması  
C) Düzenli ordunun ilk yenilgisini alması  
D) TBMM'nin otoritesinin güçlenmesi

11. İtalya, Kurtuluş Savaşı sırasında işgalci bir devlet olmasına rağmen neden Türkiye yanlısı bir politika izlemiştir?

- A) İtalya'ya vaat edilen toprakların Yunanistan'a verilmesi  
B) Türklerin Sakarya Savaşı'nı kazanmış olması  
C) İtalyanların Wilson İlkeleri'ne bağlı kalması  
D) Sovyetler Birliği'nin Misakımillî'yi tanıması

12. Kurtuluş Savaşı'nın askerî safhası, aşağıdaki hangi antlaşma ile sona ermiştir?

- A) Mondros Ateşkes Antlaşması  
B) Mudanya Ateşkes Antlaşması  
C) Moskova Antlaşması  
D) Sevr Antlaşması

13. Meclis tarafından Mustafa Kemal Paşa'ya "Başkomutanlık" yetkisi, aşağıdaki hangi tarihte süresiz olarak verilmiştir?

- A) 05 Ağustos 1921  
B) 19 Eylül 1921  
C) 20 Temmuz 1922  
D) 23 Ekim 1923

14. Lozan Barış Konferansı'nda görüşülen aşağıdaki konulardan hangisi en son çözüme kavuşmuştur?

- A) Hatay Sorunu  
B) Musul Sorunu  
C) Kapitülasyonlar  
D) Boğazlar Sorunu

15. Saltanatın kaldırılmasında aşağıdakilerden hangisinin etkisi olmamıştır?

- A) Millî egemenlik anlayışıyla çelişmesi  
B) İstanbul Hükûmetinin Millî Mücadeleye karşı olması  
C) Lozan görüşmelerine İstanbul Hükûmetinin de çağırılması  
D) İtilaf Devletleri'nin saltanatın kaldırılması için baskı yapması

16. I. Dünya Savaşı'nda soğuk hava şartları sebebiyle yaklaşık doksan bin Osmanlı askerinin şehit olduğu cephe, aşağıdakilerden hangisidir?

- A) Sina B) Kafkasya  
C) Galiçya D) Makedonya

17. İtilaf Devletleri, tartışmalı görüşmelerden sonra I. Dünya Savaşı'nın ilk barış antlaşmasını, aşağıdaki devletlerden hangisiyle imzalamışlardır?

- A) Almanya B) Avusturya  
C) Bulgaristan D) Macaristan

18. I. Boğazları ele geçirmek  
II. İstanbul'u işgal edip, Osmanlı'yı savaş dışı bırakmak  
III. Rusya'ya ekonomik ve askerî yardım ulaştırmak  
IV. Osmanlı Devleti ile Almanya'nın bağlantısını kesmek

İtilaf Devletleri Çanakkale Cephesi'ni, yukarıdakilerden hangilerini gerçekleştirmek amacıyla açmışlardır?

- A) Yalnız I B) I ve II  
C) I, III ve IV D) I, II, III ve IV

19. I. Cemiyet-i Akvamin kurulması  
II. Avrupa'da monarşi rejiminin güçlenmesi  
III. Mandacılığın ortaya çıkması  
IV. Kutsal Yerler Sorununun ortaya çıkması

Verilenlerden hangileri I. Dünya Savaşı'nın sonuçlarındandır?

- A) I ve II B) I ve III  
C) II ve III D) I, III ve IV

20. Trablusgarp Savaşı'nı bitiren Uşi Antlaşması'na adını veren "Uşi" kenti, aşağıdaki ülkelerin hangisindedir?

- A) Almanya B) Fransa  
C) İsviçre D) İtalya

## 1. OTURUM

(142) T.C. İNK. TAR. VE ATA. – 2

1. Aşağıdakilerden hangisiyle, farklı okullarda yetişen genç kuşaklar arasındaki kültürel çatışma ortadan kaldırılmak istenmiştir?

- A) Şapka Kanunu'yla
- B) Tevhid-i Tedrisat Kanunu'yla
- C) Soyadı Kanunu'nun kabulüyle
- D) Tekke ve zaviyelerin kapatılmasıyla

2. Aşağıdaki inkıaplardan hangisinin uluslararası ekonomik ilişkilere kolaylık getirdiği söylenemez?

- A) Çok partili yaşama geçilmesi
- B) Miladi takvimin kabul edilmesi
- C) Ölçü birimlerinin değiştirilmesi
- D) Hafta tatilinin cumadan pazara alınması

3. Aşağıdakilerden hangisi Şer'i Hukuk Sisteminin dayandığı kaynaklarından değildir?

- A) Kitap
- B) Sünnet
- C) Kıyas
- D) Kelam

4. Ülkemizde devlet eliyle temel sanayinin kurulması için hangi yıl "Birinci Beş Yıllık Kalkınma Planı" hazırlanarak kabul edilmiştir?

- A) 1934
- B) 1933
- C) 1931
- D) 1929

5. İzmir İktisat Kongresi'nin yapıldığı amacı, aşağıdakilerden hangisidir?

- A) Türkiye'nin teknolojik düzeyini belirlemek
- B) Türkiye'nin konut politikalarını belirlemek
- C) Ülkede yapılacak yatırımları planlayarak koordine etmek
- D) Türk ekonomisi hakkında bilgi edinip, izlenecek politikaları saptamak

6. "Türkiye'nin güvenliğini gaye tutan, hiçbir milletin aleyhinde olmayan bir barış istikameti bizim daima prensibimiz olacaktır."

ATATÜRK

Atatürk'ün bu vecizesini, aşağıdakilerden hangisiyle ilişkilendirebiliriz?

- A) Eğitim
- B) Adalet
- C) Dış politika
- D) Batılılaşma

7. Türkiye'nin Musul'u İngiliz mandası altındaki Irak'a bırakmak zorunda kalması, aşağıdakilerden hangisine aykırıdır?

- A) Misakımilli'ye
- B) Bristol Raporu'na
- C) Sevr Antlaşması'na
- D) Tekâlif-i Milliye Emirlerine

8. Aşağıdakilerden hangisinin oluşmasında İtalya ve Almanya'nın uyguladığı saldırgan politikaların etkisi yoktur?

- A) Sadabat Pakti'nin
- B) Balkan Antantı'nın
- C) Montrö Sözleşmesi'nin
- D) Kuzey Atlantik İttifakı'nın

9. Hatay Türk Devleti Meclisi, aşağıdaki tarihlerin hangisinde aldığı kararla Türkiye Cumhuriyeti'ne katılmıştır?

- A) 23 Haziran 1939
- B) 29 Haziran 1939
- C) 4 Temmuz 1938
- D) 20 Temmuz 1936

10. Kurtuluş Savaşı'nın zaferle sonuçlanmasında büyük etkisi olan Atatürk ilkesi, aşağıdakilerden hangisidir?

- A) Laiklik
- B) Devletçilik
- C) Milliyetçilik
- D) Cumhuriyetçilik

11. Halifeliğin kaldırılması inkılabını, aşağıdaki hangi Atatürk ilkesi ile ilişkilendirebiliriz?

- A) Laiklik
- B) Halkçılık
- C) Devletçilik
- D) Milliyetçilik

12. Atatürk'ün yakalandığı hastalığı ilk teşhis eden doktor, aşağıdakilerden hangisidir?

- A) Rıza Nur
- B) Fissenger
- C) Adnan Adıvar
- D) Nihat Reşat Belgeler

13. Türkiye'de II. Dünya Savaşı yıllarında, aşağıdaki siyasi partilerden hangisi iktidarda bulunuyordu?

- A) Demokrat Parti
- B) Millî Kalkınma Partisi
- C) Cumhuriyet Halk Partisi
- D) Sosyal Demokrat Halkçı Parti

14. Küçük Antant, aşağıdaki hangi iki devlete karşı kurulmuştur?

- A) İtalya ve Almanya'ya
- B) Macaristan ve Bulgaristan'a
- C) Bulgaristan ve Yunanistan'a
- D) Çekoslovakya ve Yugoslavya'ya

15. NATO'nun en yetkili organı, aşağıdakilerden hangisidir?

- A) NATO Konseyi
- B) Askerî Komite
- C) NATO Asamblesi
- D) NATO Sekreterliği

16. Saltanatın ve halifeliğin kaldırılmasının temel amacı, aşağıdakilerden hangisidir?

- A) Cumhuriyeti ilan etmek
- B) Çok partili yapıya geçmek
- C) Devlet düzenini laikleştirmek
- D) Osmanlı hanedanını yurt dışına çıkarmak

## 1. OTURUM

### (153) COĞRAFYA – 3

17. Mustafa Kemal Paşa'yı cumhurbaşkanlığına, aşağıdakilerden hangisi seçmiştir?

- A) TBMM
- B) Bakanlar Kurulu
- C) Türk Silahlı Kuvvetleri
- D) Halkoymasına katılan Türk halkı

18. Cumhuriyetin ilk yıllarında gerçekleşen olaylardan bazıları şunlardır:

- Menemen Olayı
- İzmir Suikastı
- Şeyh Said İsyanı

Bu olayların ortak özelliği için, aşağıdakilerden hangisi söylenebilir?

- A) Dinî hareketler olmaları
- B) İnkılaplara karşı olmaları
- C) Çok partili demokratik yaşama karşı olmaları
- D) Halkın çoğunluğu tarafından desteklenmeleri

19. Şeyh Said Ayaklanması, aşağıdaki durumlardan hangisine yol açmıştır?

- A) Terakkiperver Cumhuriyet Fırkasının kapatılmasına
- B) Menemen Olayı'nın ortaya çıkmasına
- C) Tekke ve zaviyelerin kapatılmasına
- D) Halifeliğin kaldırılmasına

20. Aşağıda, inkılaplar sonucunda kapatılan kurumlarla yerlerine yeni açılan modern kurumlar eşleştirilmiştir.

- I. Şer'îye Vekâleti → Diyanet İşleri Başkanlığı
- II. Düyunuümmüye İdaresi → Türk Tarih Kurumu
- III. Darülfünun → Türk Dil Kurumu
- IV. Erkan-ı Harbiye Vekâleti → Genelkurmay Başkanlığı

Bu eşleştirmelerden hangileri yanlıştır?

- A) Yalnız I
- B) I ve II
- C) II ve III
- D) I, III ve IV

1. Konglamera, gre ve kil taşı kayaların ortak özelliği aşağıdakilerden hangisidir?

- A) Aynı sertlikte olmaları
- B) Aynı minerallerden oluşmaları
- C) Kırıntılı tortul kayalar olmaları
- D) Metamorfizmaya uğramış olmaları

2. Balıkesir, Bursa ve Bilecik mermer yataklarının bulunduğu illerimizdendir.

Bu durum bu illerin arazilerinin jeolojik geçmişiyle ilgili aşağıdakilerden hangisine kanıt oluşturur?

- A) Yoğun bir volkanizma evresi geçirdiğine
- B) Metamorfizmanın etkili olduğuna
- C) Fiziksel ayrışmanın fazla olduğuna
- D) Organik kökenli kalıntıların fazla olduğuna

3. Türkiye üç tarafı denizlerle çevrili bir yarımada ülkesidir.

Aşağıdakilerden hangisi bu durumun sonuçlarından değildir?

- A) Kıyı uzunluğunun fazla olması
- B) Akarsu boylarının kısa olması
- C) İklim çeşitliliğinin fazla olması
- D) Ortalama yükseltinin fazla olması

4. • Suları yıl boyunca sıcaktır.  
• Mineral madde bakımından zengindir.

Yukarıda bazı özellikleri verilen kaynak türü aşağıdakilerden hangisidir?

- A) Artezyen
- B) Yamaç kaynağı
- C) Karstik kaynak
- D) Fay kaynağı

5. Deniz ve okyanus sularından içme ve sulama suyu olarak yararlanılamamasının temel nedeni aşağıdakilerden hangisidir?

- A) Sularının tuzlu olması
- B) Hızla kirleniyor olmaları
- C) Su sıcaklıklarının farklı olması
- D) Çeşitli canlıların yaşam alanı olması

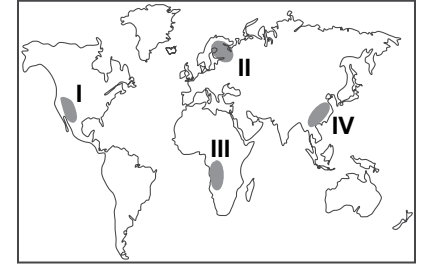
6. Coğrafya gezisi kapsamında Göller Yöresi'ne giden bir öğrenci grubu burada bulunan Beyşehir Gölü'nün sularının tatlı, Burdur Gölü'nün sularının ise tuzlu olduğunu tespit etmişlerdir. Bu durumun nedeni ile ilgili aşağıdaki görüşleri ileri sürmüşlerdir.

- **Metin**; göllerin büyüklüklerinin farklı olması bu duruma neden olmuştur
- **Arzu**; göllerin üzerinde olduğu kayaların farklı olması bu duruma neden olmuş olabilir
- **Gonca**; göllerden birinin gideğininin olması diğerinin olması bunun nedeni olabilir
- **Ömer**; göllerin beslenme kaynaklarının farklı olması bu duruma neden olmuş olabilir

Buna göre hangi öğrencinin ileri sürdüğü görüşün bu durum üzerinde daha çok etkili olduğu söylenebilir?

- A) Metin
- B) Arzu
- C) Gonca
- D) Ömer

7.



Buzul gölleri haritada numaralandırılarak verilen yerlerin hangisinde daha yaygındır?

- A) I
- B) II
- C) III
- D) IV

8. İnsanların tarım yapmayı öğrenerek kendi besinlerini üretmeye başlamaları öncelikle aşağıdakilerden hangisini zorunlu kılmıştır?

- A) Şehirlerin kurulmasını
- B) Yerleşik hayata geçilmesini
- C) Madenlerin işlenmesini
- D) Askeri açıdan güçlenmesini

## 1. OTURUM

9. Aşağıdakilerden hangisi Sanayi Devrim'i sonrasında gerçekleşen durumlardan biri değildir?

- A) Turizm faaliyetlerinin başlaması
- B) Tarımda makineleşmeye geçilmesi
- C) Enerji tüketiminin azalması
- D) Ham madde ihtiyacının artması

10. • Elverişli iklim koşullarına sahiptir.  
• Geniş ve verimli tarım arazilerine sahiptir.  
• Dünya'nın sık nüfuslu bölgelerindedir.

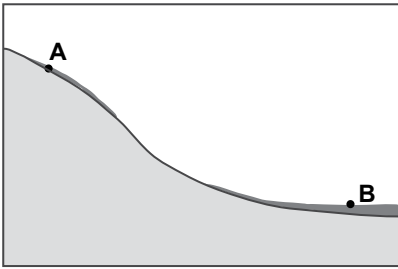
Özellikleri verilen yer aşağıdakilerden hangisidir?

- A) Orta Asya
- B) Antarktika
- C) Amazon Havzası
- D) Güneydoğu Asya

11. Kayaçların sıcaklık farkından dolayı genleşme ve büzülmesi sonucu ayrışmasına ne denir?

- A) Mekanik ayrışma
- B) Kimyasal ayrışma
- C) Biyolojik ayrışma
- D) Metamorfizma

12.



Şekildeki A merkezindeki toprak örtüsünün B merkezindeki oranla daha ince olması aşağıdakilerden hangisinin sonucudur?

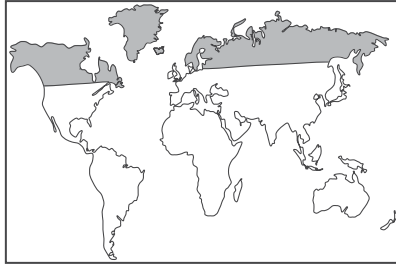
- A) Ayrışan malzemelerin dış kuvvetler ve yerçekiminin etkisiyle taşınması
- B) Düşen yağış miktarının ve yağış çeşidinin farklılaşması
- C) Bitki tür ve çeşitliliğinin yükseltilere çıkıldıkça değişmesi
- D) Yıllık ve günlük sıcaklık ortalamalarının farklılık göstermesi

13. I. Yağış  
II. Basınç  
III. Sıcaklık  
IV. Rüzgârlar

Bitki örtüsünün dağılışı ve gelişimi üzerinde en fazla etkili olan faktörler aşağıdakilerin hangisinde birarada verilmiştir?

- A) I ve II
- B) I ve III
- C) II ve IV
- D) III ve IV

14.



Haritada taranarak gösterilen alanlarda nüfus yoğunluğunun az olmasında aşağıdakilerden hangisi daha belirleyici olmuştur?

- A) Sıcaklık ortalamalarının düşük olması
- B) Toprak örtüsünün verimsiz olması
- C) Yerçekillerinin engebeli olması
- D) Ulaşım ağlarının seyrek olması

15. Prof. Dr. Aziz Sancar, Mardin'in Savur ilçesinde 1946 yılında doğmuştur. 1969 yılında İstanbul Üniversitesi Tıp Fakültesinden mezun olduktan iki yıl sonra ABD'ye göç etmiştir. Buradaki DNA onarımı konusundaki çalışmaları sayesinde 2015 Nobel Kimya Ödülü'nü kazanmıştır.

Bu durum aşağıdaki göç türlerinden hangisine örnek oluşturur?

- A) İşçi göçü
- B) Beyin göçü
- C) Zorunlu göç
- D) Mübadele göçü

16. I. Nüfusun yaş ortalamasının artması  
II. Doğal nüfus artışının yavaşlaması  
III. Çocuk nüfus oranının artması

Ülkemizdeki doğum oranlarının düşmesinin yukarıdaki durumlardan hangilerine neden olması beklenir?

- A) Yalnız I
- B) Yalnız II
- C) I ve II
- D) II ve III

17. Aşağıda, dört farklı bölgedeki çalışan nüfusun ekonomik faaliyet kollarına dağılımı verilmiştir.

Bölge	Tarım (%)	Sanayi (%)	Hizmet (%)
I	78,6	5,7	15,7
II	7,1	26,2	66,7
III	74,8	7,3	17,9
IV	2,3	29,3	68,4

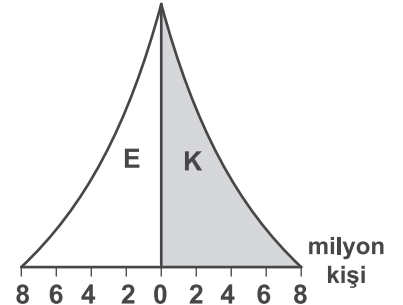
Buna göre bölgelerden hangisinin gelişmişlik düzeyi daha fazladır?

- A) I
- B) II
- C) III
- D) IV

18. Çok sayıda mağara, polye, sarkıt ve dikit gibi yer şekilleri bulunan bir yerde aşağıdaki kayaç türlerinden hangisi yaygındır?

- A) Kimyasal tortul kayaçlar
- B) Dış püskürük kayaçlar
- C) Fiziksel tortul kayaçlar
- D) Başkalaşım kayaçları

19.

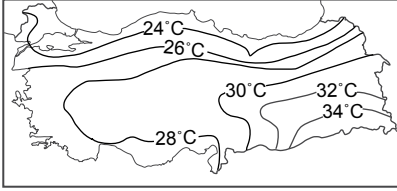


Görselde verilen nüfus piramidi aşağıdaki ülkelerden hangisine ait olabilir?

- A) Hindistan
- B) Almanya
- C) Fransa
- D) Ukrayna

## 1. OTURUM

20.



Yukarıdaki Türkiye Temmuz ayı ortalama sıcaklık dağılışı haritası incelendiğinde aşağıdakilerden hangisine ulaşamaz?

- A) En yüksek sıcaklık ortalamaları Güneydoğu Anadolu'da görülür.
- B) Güneyden kuzeye gidildikçe sıcaklık ortalamaları genel olarak azalmaktadır.
- C) Deniz kıyılarında sıcaklık ortalamaları 32°C'nin altındadır.
- D) İç bölgelerde sıcaklık ortalamaları en düşüktür.

### (154) COĞRAFYA – 4

1. Ülkemizde en fazla ekim alanına sahip tarım ürünü aşağıdakilerden hangisidir?

- A) Pamuk
- B) Buğday
- C) Mercimek
- D) Şeker pancarı

2. Maki üst sınırının Akdeniz'den Marmara'ya doğru gidildikçe azalmasının nedeni aşağıdakilerden hangisidir?

- A) Bakı
- B) Nem
- C) Enlem
- D) Yükselti

3. Aşağıdaki haritada ülkemizdeki delta ovalarının dağılışı gösterilmiştir.



Bu ovalarımızda yaygın olan toprak tipi aşağıdakilerin hangisinde verilmiştir?

- A) Tuzlu topraklar
- B) Alüvyal topraklar
- C) Çernezyom toprakları
- D) Kahverengi orman toprakları

4. Ülkemizdeki ormanların büyük çoğunluğunun kıyı bölgelerde yer almasında kıyı bölgelerin aşağıdaki özelliklerinden hangisi daha fazla etkili olmuştur?

- A) Nem ve yağışın fazla olması
- B) Yükselti farkının fazla olması
- C) Toprak çeşitliliğinin fazla olması
- D) Nüfus yoğunluğunun fazla olması

5. I. Rafting sporu  
II. Hidroelektrik potansiyeli  
III. Taşımacılık potansiyeli

Türkiye'de akarsuların akış hızının yüksek olması yukarıdakilerden hangileri üzerinde olumlu etki yapmıştır?

- A) Yalnız I
- B) Yalnız II
- C) I ve II
- D) II ve III

6. Ülkemizdeki akarsuların genel özellikleri arasında aşağıdakilerden hangisi gösterilemez?

- A) Boyları genellikle kısadır.
- B) Akış hızları yüksektir.
- C) Rejimleri düzensizdir.
- D) Kapalı havzalıdırlar.

7. Ülkemizde son yüzyılda meydana gelen doğal afetler arasında aşağıdakilerden hangisi yoktur?

- A) Heyelan
- B) Deprem
- C) Sel ve taşkın
- D) Volkan patlaması

8. Akdeniz kıyılarında turizmin gelişmesinde aşağıdaki özelliklerinden hangisinin etkisi daha azdır?

- A) Yer şekillerinin engebeli olması
- B) Deniz suyu sıcaklığının fazla olması
- C) Güneşlenme süresinin fazla olması
- D) Denize girme süresinin uzun olması

9. • Göçebe çobanların çadırlarından oluşan yerleşmelerdir.  
• Batı ve Güneydoğu Toroslar ile Doğu Anadolu ve Güneydoğu Anadolu'da yaygındır.

Yukarıda bazı özellikleri verilen köy altı yerleşmesi aşağıdakilerden hangisinde verilmiştir?

- A) Yayla
- B) Oba
- C) Mahalle
- D) Mezra

10. Aşağıdakilerden hangisi ülkemizdeki önemli turizm şehirlerinden değildir?

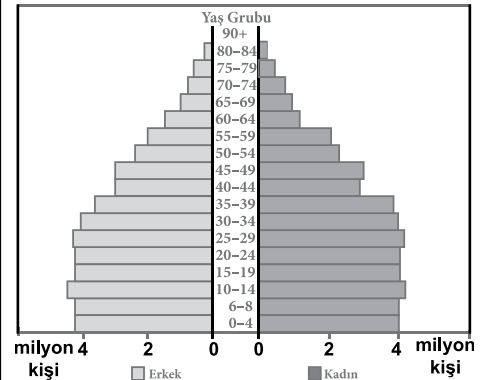
- A) Antalya
- B) Muğla
- C) İstanbul
- D) Bayburt

11. I. Okuryazarlık oranı  
II. Kırsal nüfus oranı  
III. Ortalama yaşam süresi

1950'den 2015 yılına kadar geçen sürede ülkemizin nüfus özellikleri ile ilgili yukarıda verilenlerden hangilerinde artış olmuştur?

- A) Yalnız I
- B) Yalnız II
- C) I ve III
- D) II ve III

12. Aşağıda Türkiye'nin 2011 yılına ait nüfus piramidi verilmiştir.



Piramit incelendiğinde aşağıdakilerden hangisine ulaşamaz?

- A) Toplam nüfus miktarına
- B) Toplam kadın nüfus miktarına
- C) 0 – 14 yaş arası çocuk nüfus miktarına
- D) Çalışan nüfusun sektörlere göre dağılımına

## 1. OTURUM

13. Aşağıdakilerden hangisi erozyonu hızlandıran durumlardandır?

- A) Doğal bitki örtüsünü yok etmek
- B) Ağaçlandırma çalışmaları yapmak
- C) Eğimli yamaçlarda teraslama yapmak
- D) Tarım arazilerini eğime dik sürmek

14. Aşağıdakilerden hangisi sanayi devriminden önce icat edilmiştir?

- A) Kağıt
- B) Radyo
- C) Telefon
- D) Fotoğraf makinesi

15. Akdeniz'den diğer deniz veya okyanuslara çıkmak isteyen bir gemi aşağıdaki su yollarının hangisinden yararlanamaz?

- A) Cebelitarık Boğazı
- B) İstanbul Boğazı
- C) Panama Kanalı
- D) Süveyş Kanalı

16. Gelişmiş ülkeler doğal afetlerin zararlarını en aza indirmek için gelişmemiş ülkelere oranla daha fazla yatırım yaparlar

**Buna göre aynı büyüklükteki bir depremin aşağıdaki ülkelerden hangisinde daha az can ve mal kaybına neden olması beklenir?**

- A) Nijerya
- B) İtalya
- C) Pakistan
- D) İran

17. Aşağıdaki kıtalardan hangisinin varlığı coğrafi keşifler sonucunda ortaya çıkmıştır?

- A) Asya kıtası
- B) Amerika kıtası
- C) Avrupa kıtası
- D) Afrika kıtası

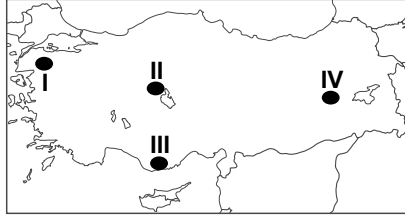
18. Bilginin korunup yayılmasına aşağıdakilerden hangisinin etkisi daha fazladır?

- A) Matbaanın icadı
- B) Yeni kıtaların keşfedilmesi
- C) Süveyş kanalının yapılması
- D) İçten yanmalı motorların icadı

19. Aşağıdakilerden hangisi meteorolojik kökenli doğal afetlerdendir?

- A) Deprem
- B) Kütle hareketleri
- C) Kasırga
- D) Tsunami

20. Çiğ, kar kütesinin eğimli yamaçlar boyunca hareket etmesi sonucunda oluşur.



Haritada verilen yerlerin hangisinde çiğ olaylarının görülme sıklığı daha fazladır?

- A) I
- B) II
- C) III
- D) IV

### (155) COĞRAFYA – 5

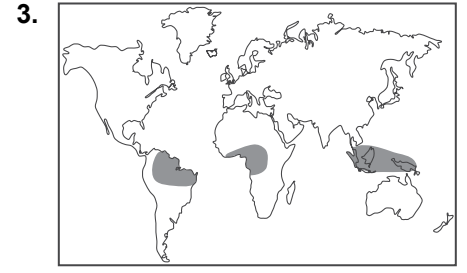
1. Aşağıdaki biyomlardan hangisinde yaşayan canlı türleri düşük sıcaklık değerlerine daha az dayanıklıdır?

- A) Tundra biyomu
- B) Savan biyomu
- C) Kutup biyomu
- D) Dağ biyomu

2. Yapılan araştırmalarda günümüzdeki canlı türü kayıplarının geçmişe göre daha fazla olduğu belirtilmektedir.

**Yaşanan tür kayıpları üzerinde aşağıdaki durumlardan hangisinin etkisinden söz edilemez?**

- A) Nüfus artışı
- B) Sanayileşme
- C) Milli parkların artması
- D) Doğal kaynak kullanımının artması



3. Haritada gösterilen biyomda canlı çeşitliliğinin fazla olmasında aşağıdakilerden hangileri daha fazla etkili olmuştur?

- A) Sıcaklık – Nemlilik
- B) Yer şekilleri – Toprak yapısı
- C) Jeolojik yapı – Beşeri faktörler
- D) Hakim rüzgarlar – Basınç değerleri

4. Aşağıdakilerden hangisi üreticilerdendir?

- A) Ayrıştırıcılar
- B) Etçiller
- C) Otçullar
- D) Bitkiler

5. Şehirler etki alanları bakımından yerel, bölgesel ve küresel olmak üzere üçe ayrılır.

**Buna göre, Yozgat, İzmir ve Tokyo şehirlerinin etki alanları aşağıdakilerden hangisinde doğru olarak verilmiştir?**

	Yozgat	İzmir	Tokyo
A)	Yerel	Küresel	Bölgesel
B)	Bölgesel	Yerel	Küresel
C)	Bölgesel	Küresel	Yerel
D)	Yerel	Bölgesel	Küresel

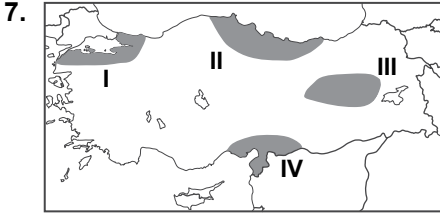
6. Çin 1979 yılından beri uygulamış olduğu tek çocuk politikasından vazgeçme yönünde bir eğilim izlemektedir.

**Aşağıdakilerden hangisi bu durumun nedenleri arasında gösterilemez?**

- A) Nüfusun çok olması
- B) Nüfusun yaşlanması
- C) Erkek nüfusun eş bulmakta zorlanması
- D) Nüfusta cinsiyet dengesizliğinin oluşması



## 1. OTURUM



Haritada taralı alanlardan hangisi Kuzey Anadolu Fayı ile Güney Anadolu Fayı'nın karşılaşma alanıdır?

- A) I B) II C) III D) IV

8. • Ortalama yaşam süresi uzamaktadır  
• Eğitim seviyesi artmaktadır  
• Hayat standardı yükselmektedir

Son 20 yıllık dönemde yukarıdaki durumların görüldüğü bir ülke ile ilgili aşağıdakilerden hangisi söylenebilir?

- A) Doğum oranları artmaktadır  
B) Gelişmişlik düzeyi artmaktadır  
C) Tarımda çalışanların oranı artmaktadır  
D) Kır nüfusu kent nüfusundan fazladır

9. Aşağıdakilerden hangisi Bursa'da üretilen bir otomobilin dağıtım aşamasıdır?

- A) Mühendislerin yeni otomobil dizaynı geliştirmeleri  
B) Otomobilin motorunun gövde içerisine yerleştirilmesi  
C) Otomobilin İzmit limanından gemilere yüklenmesi  
D) Otomobili satın aldıktan sonra akraba ziyaretine gidilmesi

10. Müslümanların yoğun olarak yaşadığı ülke ve bölgelerde domuz etinin üretim, dağıtım ve tüketimi azdır.

Bu durum ekonomik faaliyetler üzerinde aşağıdakilerden hangisinin etkisine örnek oluşturur?

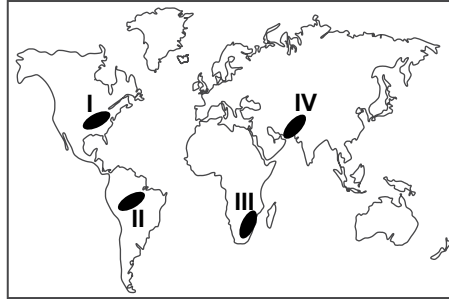
- A) Dini inanışların  
B) Devlet politikalarının  
C) Doğal çevre özelliklerinin  
D) Beslenme alışkanlıklarının

11. Sürdürülebilir kalkınma, tükenmeyen doğal kaynakların kullanımının artırılmasıyla gerçekleştirilebilir.

Buna göre, aşağıdaki doğal kaynaklardan hangisine yapılan yatırım sürdürülebilir kalkınma amacına daha uygun olur?

- A) Kömür B) Petrol  
C) Rüzgar D) Madenler

12. Doğal kaynaklardan verimli şekilde yararlanma, ülkelerin gelişmişlik durumu ile ilişkilidir.



Buna göre haritada numaralandırılarak verilen yerlerden hangisinde doğal kaynaklardan daha yüksek verim elde edilir?

- A) I B) II C) III D) IV

13. Çukurova'nın aşağıdaki faaliyetlerden hangisi için kullanılması sürdürülebilir kalkınma için en uygun olur?

- A) İnşaat B) Tarım  
C) Sanayi D) Turizm

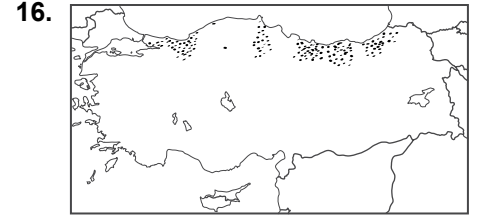
14. I. Kış turizm potansiyelinin yüksek olması  
II. Yol yapım maliyetlerinin yüksek olması  
III. Hidroelektrik enerji potansiyelinin yüksek olması

Yukarıdakilerden hangileri ülkemizde dağlık ve engebeli alanların geniş olmasının olumlu yönlerindedir?

- A) Yalnız I B) Yalnız II  
C) I ve II D) I ve III

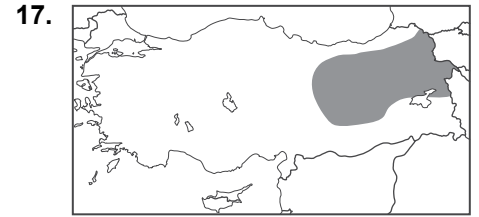
15. Kalkınmışlık düzeyi arttıkça ülkemiz tarımında aşağıdaki değişikliklerden hangisi gözlemlenmez?

- A) Verimlilik artar.  
B) Üretim miktarı artar.  
C) Makine kullanımı artar.  
D) Doğal koşullara bağımlılık artar.



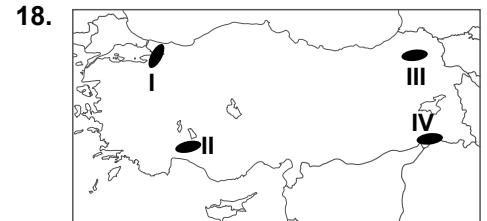
Haritada yetiştirilme alanlarının dağılışı verilen tarım ürünü aşağıdakilerden hangisidir?

- A) Ayçiçeği B) Fındık  
C) Buğday D) Zeytin



Haritada taralı alanda büyükbaş hayvancılığın yaygın olmasında aşağıdakilerden hangisinin etkisi en azdır?

- A) Gür çayırların bulunması  
B) Yerçekillerinin engebeli olması  
C) Nüfus yoğunluğunun düşük olması  
D) Sıcaklık ortalamalarının düşük olması



Haritada numaralandırılan yerlerin hangisinde ekonomik gelişmişlik fazla olduğu için teşvik politikalarına daha az ihtiyaç duyulur?

- A) I B) II C) III D) IV

## 1. OTURUM

19. Aşağıdaki illerin hangisinde sanayi faaliyetleri daha azdır?

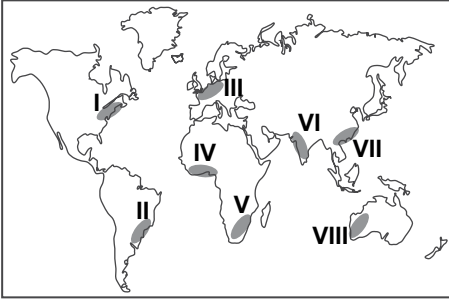
- A) Adana B) İzmir  
C) Kayseri D) Iğdır

20. Denizli Sarayköy'de aşağıdaki kaynaklardan hangisi ile enerji üretimi yapılmaktadır?

- A) Doğal gaz B) Jeotermal  
C) Rüzgâr gücü D) Güneş

### (156) COĞRAFYA – 6

1.



Haritada numaralandırılmış alanlardan hangi ikisi arasında ticaret hacmi daha fazladır?

- A) I. ve III. B) II. ve IV.  
C) V. ve VI. D) VII. ve VIII.

2.

Maddi (Somut) Unsurlar	Manevi (Soyut) Unsurlar
Doğal ortam özellikleri	Hukuk kuralları
İklim özellikleri	Örf ve adetler
Coğrafi konum	Dünya görüşü
Din ve inançlar	Toprak özellikleri

Yukarıda kültürü oluşturan maddi ve manevi unsurların gösterildiği tabloda yanlış yerde verilen iki unsur aşağıdakilerden hangileridir?

- A) Doğal ortam özellikleri - Hukuk kuralları  
B) Din ve inançlar - Toprak özellikleri  
C) Coğrafi konum - Dünya görüşü  
D) İklim özellikleri - Örf ve adetler

3. Avrupa kıtası ile ilgili aşağıdakilerden hangisi söylenemez?

- A) Önemli sanayi alanlarındandır  
B) Dünya'daki büyük tüketim bölgelerindedir  
C) Hizmet sektörü çok gelişmiştir  
D) Dışarıya önemli oranda enerji hammaddesi ihraç eder

4. Aşağıdakilerden hangisinin sera etkisi yaratan çevre sorunlarına etkisi daha azdır?

- A) Tarım faaliyetleri  
B) Sanayi faaliyetleri  
C) Ormansızlaşma  
D) Enerji tüketimi

5. Dünya turizminde aşağıdaki kıtalardan hangisinin payı daha fazladır?

- A) Asya B) Afrika  
C) Avrupa D) Okyanusya

6. Coğrafya öğretmeni, Duru'ya; İtalya'nın fiziki özelliklerini, Gizem'e ise İtalya'nın beşeri özelliklerini araştırıp sunma ödevi vermiştir.

Buna göre; Duru aşağıdaki konu başlıklarından hangisine değinirse Gizem'in sunum konusuna girmiş olur?

- A) İtalya'nın iklim özelliklerini  
B) İtalya'nın nüfus özelliklerini  
C) İtalya'nın bitki örtüsünü  
D) İtalya'nın yer şekillerini

7. Aşağıdakilerden hangisi geri dönüşümün yararları arasında gösterilemez?

- A) Doğal kaynaklar korunur.  
B) Enerji tasarrufu sağlanır.  
C) Ekonomik katkı sağlanır.  
D) Atık miktarı artar.

8. Aşağıdaki denizlerden hangisinin dünya turizmindeki önemi daha fazladır?

- A) Akdeniz B) Karadeniz  
C) Kızıldeniz D) Baltık denizi

9. • Ekosistemlerin korunması  
• Doğal güzelliklerin korunması  
• İnsan etkisinin azaltılması

Doğal güzelliklere sahip olan bir bölgede verilenlerin gerçekleştirilmesi için aşağıdakilerden hangisinin yapılması en uygun olur?

- A) Yerleşmeye açılması  
B) Milli park ilan edilmesi  
C) Ağaçlandırma çalışmaları yapılması  
D) Yeni canlı türlerinin bölgeye getirilmesi

10. Aşağıdakilerden hangisi yenilenebilir enerji kaynaklarındandır?

- A) Doğalgaz B) Kömür  
C) Petrol D) Güneş

11. Aşağıdaki çevre felaketlerinden hangisinin oluşumunda insan etkisi yoktur?

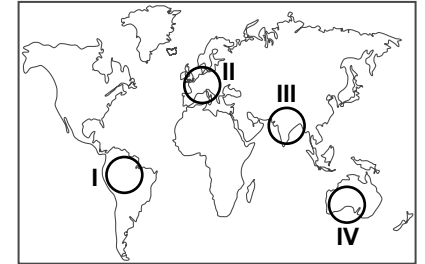
- A) Çernobil faciası  
B) Aral Gölü'nün kuruması  
C) Vezüv volkanının patlaması  
D) Exxon Valdez tanker kazası

12. Ülkelerin gelişmişlik düzeyleri arttıkça şehirleşme oranlarında artmaktadır.

Buna göre, aşağıdaki ülkelerden hangisinde şehirleşme oranı daha fazladır?

- A) Fransa B) Endonezya  
C) Nijer D) Brezilya

13.



Sanayi Devrimi haritada numaralı alanlardan hangisinde daha önce başlamıştır?

- A) I B) II C) III D) IV



## 1. OTURUM

14. Taş kömürü yataklarının bulunması sonucunda sanayisi hızla gelişen bir yerde aşağıdakilerden hangisinin yaşanması beklenmez?

- A) Nüfus artışının
- B) Hava kirliliğinin
- C) Konut sıkıntısının
- D) Biyoçeşitliliğin artmasının

15. Birim alanda aynı tarım ürününden alınan verim Belçika'da Hindistan'dan daha fazladır.

**Bu durumu iki ülkenin hangi özelliği daha çok etkilemiştir?**

- A) Nüfus artış hızları
- B) Gelişmişlik düzeyleri
- C) Yüz ölçümlerinin farklılığı
- D) Tarımsal nüfus miktarları

16. Hollanda yüz ölçümü küçük olmasına rağmen Dünya'nın en önemli tarım ülkelerinden biridir.

**Bu durum üzerinde aşağıdakilerden hangisinin etkisi daha azdır?**

- A) Verimliliğin yüksek olması
- B) İslah edilmiş tohum kullanması
- C) İşlek limanlara sahip olması
- D) Modern tarım yöntemleri kullanılması

17. Aşağıdaki ülkelerden hangisi Avrupa Birliği'ne üye değildir?

- A) İtalya
- B) Fransa
- C) Almanya
- D) Kanada

18. Doğal kaynak kullanımından kaynaklanan çevre sorunlarını en aza indirebilmek için aşağıdakilerden hangisi yapılmalıdır?

- A) Kaynakların kullanımında çevre yönetimi ve planlamasının yapılması
- B) Kaynakların işletildiği tesislerin yerleşmelere uzak yerlere yapılması
- C) Sadece yüzeyde bulunan kaynakların işletilmesi
- D) Kaynakların kullanımının artırılması

19. 2015 yılında hızla düşen petrol fiyatları Rusya ve İran gibi ekonomileri petrol ihracatına dayalı ülkeleri ciddi oranda sarsmaktadır.

**Buna göre, Rusya ve İran ekonomilerinin aşağıdaki kuruluşlardan hangisinin aldığı kararlara karşı daha hassas olduğu söylenebilir?**

- A) Dünya Bankası
- B) OPEC
- C) OECD
- D) AGİT

20. I. Nüfusun artması  
II. Sanayinin gelişmesi  
III. Milli parkların artması

**Yukarıdaki durumlardan hangileri doğal kaynaklara olan talebin artmasında etkili olmuştur?**

- A) Yalnız I
- B) Yalnız II
- C) I ve II
- D) II ve III

### (157) COĞRAFYA – 7

1. • Tarım alanlarının az olması  
• Kıyılarında liman olmaya elverişli ada ve yarımadaların olması  
• Yer altı ve yer üstü kaynaklarının yetersiz olması

**gibi özellikler aşağıdaki medeniyetlerden hangisinde deniz ticaretinin ve balıkçılığın gelişmesine olanak sağlamıştır.**

- A) Mısır
- B) Akdeniz
- C) İnkâ
- D) Mezopotomya

2. İnsanların doğaya etkileri ile ilgili aşağıdakilerden hangisi söylenemez?

- A) Doğadaki ekstrem olaylar İnsanları etkilemez.
- B) Gelişmiş ülkelerde insanların doğaya etkisi daha fazladır.
- C) İnsanlar doğaya ihtiyaçları doğrultusunda müdahale etmektedir.
- D) Sanayideki gelişmeler insanların doğa üzerindeki etkisini artırmıştır.

3. Aşağıdakilerden hangisi küresel ısınmanın kıyılarda yaptığı değişiklikdir?

- A) Kış sıcaklık değerlerinin düşmesi
- B) Deniz seviyesinin yükselmesi
- C) Orman yangınlarının azalması
- D) Kuşların göç dönemlerinin aynı kalması

4. Aşağıdaki gazlardan hangisinin atmosferdeki oranının artması küresel ısınmaya daha fazla etki eder?

- A) Azot
- B) Oksijen
- C) Su buharı
- D) Karbondioksit

5. Bir kasabanın yakınında bulunan kömür ve demir madenlerini işletmek için kasabanın arazisine santral ve fabrikalar kurulmuştur.

**Aşağıdakilerden hangisi bunun sonucunda kasabada meydana gelecek değişimlerdenidir?**

- A) Tarımla uğraşan nüfus oranının artması
- B) Aldığı göçlerle nüfusunun artması
- C) Kırsal yerleşmelerin artması
- D) Hayvancılığın ekonomisindeki ağırlığının artması

6. Aşağıdaki şehirlerden hangisinin ileri teknoloji ürünlerinin üretim ve satışından elde ettiği gelir daha fazladır?

- A) Tokyo
- B) Atina
- C) Cakarta
- D) Rio de Janerio

7. Aşağıdaki ifadelerden hangisi ekstrem olaylara örnek oluşturur?

- A) Sıcaklıklar mevsim normallerinin biraz üzerinde seyretmektedir.
- B) Köyümüze yaklaşık bir aydır yağmur düşmedi.
- C) Şehrimize bir yılda düşen yağış miktarı üç saatte düştü.
- D) Kar kalınlığı önceki yıllardaki gibi bir metrenin üzerine çıktı.

## 1. OTURUM

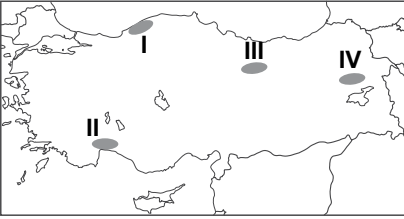
8. Aşağıdaki medeniyetlerden hangisi Nil Nehri'nin havzasında kurulmuştur?

- A) Hint medeniyeti
- B) Çin medeniyeti
- C) Mısır medeniyeti
- D) Mezopotamya medeniyeti

9. Ülkemizin kuş gözlemciliği potansiyelinin yüksek olmasında aşağıdaki özelliklerinden hangisinin etkisi yoktur?

- A) Sulak alanların fazla olması
- B) Kuşların göç yolları üzerinde bulunması
- C) İklim ve bitki zenginliğinin fazla olması
- D) Havayolu ulaşımının gelişmiş olması

10.



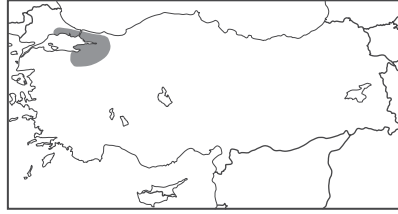
Haritada numaralandırılarak verilen yerlerin bölge eşleştirmeleri ile ilgili aşağıdakilerden hangisi yanlıştır?

- A) I – Karadeniz iklim bölgesi
- B) II – Turizm bölgesi
- C) III – Sanayi bölgesi
- D) IV – Dağlık bölge

11. Aşağıdakilerden hangisi ülkemizin gelişmişlik düzeyini artırmaz?

- A) İleri teknoloji ürünlerinin üretimine ağırlık verilmesi
- B) Araştırma ve geliştirme faaliyetlerine önem verilmesi
- C) Sahip olduğu kaynakların verimli kullanılması
- D) Tasarrufları azaltma ve tüketimin özendirilmeye çalışılması

12.



Haritada taralı alan aşağıdaki bölge sınıflandırmalarından hangisine daha az uyar?

- A) Sanayi bölgesi
- B) Ticaret bölgesi
- C) Maden bölgesi
- D) Kentsel bölge

13. Ülkemizde yük ve yolcu taşımacılığında aşağıdaki ulaşım sistemlerinden hangisi ilk sırada yer almaktadır?

- A) Kara yolu
- B) Hava yolu
- C) Deniz yolu
- D) Demir yolu

14. Aşağıda Türkiye'nin bazı yıllar itibariyle ihracatının sektörlere göre dağılım oranları verilmiştir.

Yıl	1963 (%)	1990 (%)	2014 (%)
Tarım ve hayvancılık	77,2	18,1	4,1
Madenler	2,9	2,5	2,1
Sanayi malları	19,9	79,4	93,8

Tablodaki bilgilerden hareketle aşağıdakilerden hangisine ulaşamaz?

- A) Tarım ve hayvancılığın ihracattaki payı sürekli azalmıştır.
- B) Sanayi mallarının ihracattaki payı sürekli artmıştır.
- C) İhracatta en az pay madenlere aittir.
- D) İhracattaki en büyük artış madencilikte olmuştur.

15. Aşağıdaki limanlardan hangisinin ülkemizin iç ve dış ticaretindeki önemi daha azdır?

- A) Mersin
- B) Sinop
- C) İzmir
- D) İstanbul

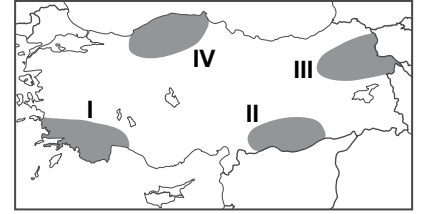
16. Ülkemizde jeotermal kaynakların fazla olması aşağıdakilerden hangisine daha fazla katkı yapmıştır?

- A) Sağlık turizmi
- B) Rafting turizmi
- C) Yayla turizmi
- D) Kongre turizmi

17. Aşağıdaki illerimizden hangisinin Türkiye'nin deniz turizmindeki önemi daha azdır?

- A) Antalya
- B) Muğla
- C) İzmir
- D) Hatay

18.



Çifte Minareli Medrese, Ani Harabeleri ve İshakpaşa Sarayını gezen turist grubu haritada taralı alanlardan hangisine seyahat etmiştir?

- A) I
- B) II
- C) III
- D) IV

19. Aşağıdakilerden hangisi ülkemizdeki önemli kayak merkezleri arasında gösterilemez?

- A) Erciyes
- B) Karacadağ
- C) Uludağ
- D) Sarıkamış

20. Aşağıdakilerden hangisi teknolojinin olumsuz etkilerine örnektir?

- A) Doğal kaynakların tükenmesi
- B) Hayat standardının yükselmesi
- C) Mal ve hizmet üretiminin artması
- D) Yeni iş sahalarının ortaya çıkması

## 1. OTURUM

### (158) COĞRAFYA – 8

1. Aşağıdakilerden hangisi GAP'ın uygulandığı illerden biridir?

- A) Mardin B) Trabzon  
C) İzmir D) Aydın

2. Aşağıdakilerden hangisi Türkiye'de cumhuriyetin ilk yıllarında nüfusu artırıcı politikalar izlenmesinin nedenlerinden değildir?

- A) Fazla nüfusun askeri güç olarak görülmesi  
B) Tarımsal iş gücüne duyulan ihtiyacın fazla olması  
C) Doğal kaynakları işletmek için nüfusa ihtiyaç duyulması  
D) Turizm sektörünün geliştirilmek istenmesi

3. Aşağıdakilerden hangisi 1985 yılından sonra ülkemizde nüfus artış hızının düşmesinin nedenlerinden değildir?

- A) Evlenme yaşının yükselmesi  
B) Eğitim seviyesinin yükselmesi  
C) Doğum teşviklerinin verilmesi  
D) Kadınların iş hayatına daha fazla katılması

4. Aşağıdakilerden hangisi bölgesel kalkınma projelerinin amaçları arasında gösterilemez?

- A) Bölgeler arasındaki nüfus farkını artırmak  
B) Bölgeler arası kalkınmışlık farkını azaltmak  
C) Bölgelerin güçlü yönlerinin açığa çıkarılmasını sağlamak  
D) Gelişmişlik ve refahın ülke geneline yayılmasını sağlamak

5. I. Kızılırmak  
II. Çoruh  
III. Dicle  
IV. Fırat

Yukarıdakilerden hangileri Güneydoğu Anadolu Projesi kapsamında faydalanılan akarsulardandır?

- A) I ve II B) I ve IV  
C) II ve III D) III ve IV

6. Nüfusun yaşlanması önemli demografik sorunlardan biridir.

Buna göre aşağıdakilerden hangisi nüfusun yaşlanması olumsuz yönüne örnektir?

- A) Gelir düzeyinin artması  
B) Bağımlı nüfusun artması  
C) Doğum oranlarının artması  
D) Eğitim seviyesinin yükselmesi

7. Aşağıdakilerden hangisi jeopolitikte değişmeyen unsurdur?

- A) Politik değerler  
B) Ekonomik değerler  
C) Coğrafi konum  
D) Sosyal ve kültürel değerler

8. Olaylar en büyük etkiyi gerçekleştirdiği yere ve yakın çevresine yaparlar.

Buna göre, aşağıdaki olaylardan hangisinin Türkiye'ye etkisi daha az olmuştur?

- A) SSCB ve Yugoslavya'nın dağılması  
B) Panama Kanalı'nın açılması  
C) Hazar Havzası'nın Dünya petrol üretimindeki payının artması  
D) Orta Asya ve Balkanlar'da yeni devletlerin kurulması

9. Doğal kaynaklardan daha verimli yararlanabilmek için aşağıdakilerden hangisinin yapılması en uygun olur?

- A) Ülkeler arası ticaretin azaltılması  
B) Nüfus artış hızının artırılması  
C) Doğal kaynak kullanımının yasaklanması  
D) Arıtma ve geri dönüşüme öncelik verilmesi

10. Azerbaycan'a ait Karabağ'ın işgal altında olması Türkiye ile aşağıdaki ülkelerden hangisi arasındaki ilişkileri olumsuz yönde etkilemektedir?

- A) Suriye B) İran  
C) Yunanistan D) Ermenistan

11. Bir ülkenin gelişmişlik düzeyini belirlemede en çok kullanılan ölçüt aşağıdakilerden hangisidir?

- A) Kişi başına düşen gelir miktarı  
B) Ortalama yaşam süresi  
C) Enerji tüketim miktarı  
D) Eğitim seviyesi

12. Aşağıdakilerden hangisi gelişmiş ülkelerde geri kalmış ülkelere göre kesinlikle daha fazladır?

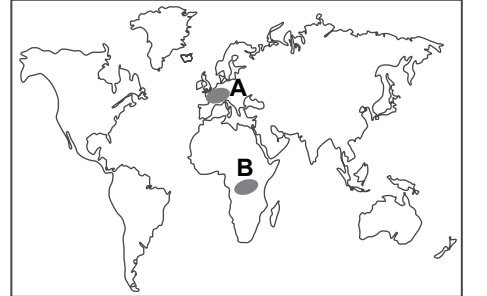
- A) Yüzölçümü  
B) Nüfus miktarı  
C) Eğitim seviyesi  
D) Nüfus artış hızı

13. – Genç nüfus oranı  
– Kişi başı gelir miktarı  
– Yıllık nüfus artış oranı  
– Okuryazar nüfus oranı

Nijerya'da yukarıdakilerden kaç tanesi Almanya'dakinden daha fazladır?

- A) 1 B) 2 C) 3 D) 4

14.



Haritada verilen A ve B bölgeleri karşılaştırıldığında aşağıdakilerden hangisi söylenebilir?

- A) B bölgesinde ulaşım ağı daha yaygındır.  
B) A bölgesinde sanayileşme daha fazladır.  
C) A bölgesinde eğitim seviyesi daha düşüktür.  
D) B bölgesinde kaynaklar daha verimli kullanılır.

15. Aşağıdaki hangisi Güney Afrika Cumhuriyeti'nin Dünya rezervlerinin yarısından fazlasına sahip olduğu madenlerden değildir?

- A) Petrol B) Platinyum  
C) Manganez D) Krom

## 1. OTURUM

### (163) MATEMATİK – 3

16. A ülkesinde sanayileşme ve nüfus miktarı B ülkesinden daha fazla olmasına rağmen, B ülkesinde çevre kirliliği daha fazladır.

**Bu durum aşağıdakilerden hangisine kanıt oluşturur?**

- A) A ülkesinde arıtma ve geri dönüşüme önem verildiğine  
B) A ülkesinin doğal kaynaklar bakımından daha zengin olduğuna  
C) B ülkesinde bitki örtüsünün daha gür olduğuna  
D) B ülkesinde şehirleşme oranının daha yüksek olduğuna

17. Petrol ve doğal gaz fiyatlarının düşmesi aşağıdaki ülkelerden hangisinin ekonomisine olumlu yansır?

- A) İran  
B) Türkiye  
C) Suudi Arabistan  
D) Rusya Federasyonu

18. Aşağıdaki bölgelerin hangisindeki çatışma ve gerilimlerin ülkemize etkisi daha azdır?

- A) Mısır                      B) Suriye  
C) Filistin                    D) Bolivya

19. Günümüzde Orta Doğu ülkelerindeki çatışmaların temel nedeni aşağıdakilerden hangisidir?

- A) Toprak paylaşımı  
B) Yeni pazar arayışları  
C) Enerji kaynaklarının paylaşımı  
D) Önemli ulaşım yollarının kontrolü

20. Aşağıdakilerden hangisi günümüzün en büyük çevre sorunudur?

- A) Erozyon  
B) Ses kirliliği  
C) Küresel ısınma  
D) Sel ve taşkınlar

1.  $P(n, 2) + P(n, 1) = 64$  olduğuna göre  $n$  kaçtır?

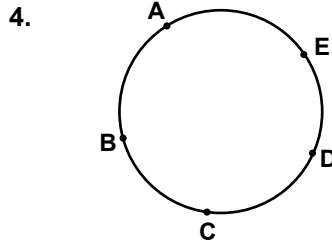
- A) 4    B) 8    C) 12    D) 16

2.  $\frac{n!}{(n-2)!} = 20$  olduğuna göre  $n!$  kaçtır?

- A) 2    B) 6    C) 24    D) 120

3. Düzgün bir madeni para 4 kez havaya atılıyor. Paranın üst yüzüne 2 kez yazı, 2 kez tura gelme olasılığı nedir?

- A)  $\frac{1}{16}$                       B)  $\frac{2}{8}$   
C)  $\frac{3}{8}$                         D)  $\frac{1}{2}$



Şekildeki çember üzerinde bulunan A, B, C, D, E noktalarını köşe kabul eden en çok kaç farklı üçgen oluşturulabilir?

- A) 5    B) 10    C) 15    D) 20

5.  $f: \mathbb{R} \rightarrow \mathbb{R}$ ,  
 $f(x) = \frac{x}{2} + \frac{x}{3} + 1$  olduğuna göre  $f^{-1}(11)$  kaçtır?

- A) 12    B) 11    C) 10    D) 9

6.  $f, g: \mathbb{R} \rightarrow \mathbb{R}$ ,  
 $f(x) = x + 4$  ve  $(f \circ g)(x) = 2x - 1$  olduğuna göre  $g(7)$  kaçtır?

- A) 7    B) 9    C) 11    D) 13

7.  $f, g: \mathbb{R} \rightarrow \mathbb{R}$ ,  
 $f(x) = 3x - 1$  ve  $g(x) = 4x$  olduğuna göre  $(2f - g)(3)$  kaçtır?

- A) -2    B) -1    C) 0    D) 4

8.  $4x - 2y + 3 = 0$  doğrusuna paralel olan doğrunun eğimi nedir?

- A) -3    B) -2    C) 2    D) 4

9.  $2x + 3y - 5 = 0$  ve  $ax - 9y + 4 = 0$  denklemleri ile verilen doğrular birbirine paralel olduğuna göre  $a$  kaçtır?

- A) -6    B) -3    C) 2    D) 4

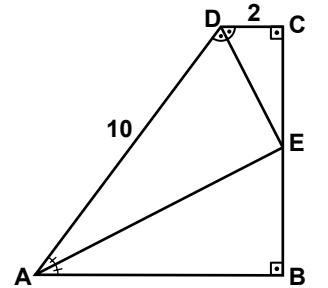
10.  $L(-4, 1)$  noktasından geçen ve eğimi  $\frac{2}{3}$  olan doğrunun denklemi aşağıdakilerden hangisidir?

- A)  $3x - 2y - 11 = 0$   
B)  $2x - y + 5 = 0$   
C)  $2x - 3y + 11 = 0$   
D)  $3x - y + 8 = 0$

11. Analitik düzlemde  $K(m, 6)$  ve  $L(3, -2)$  noktaları veriliyor.  $|KL| = 10$  birim olduğuna göre  $m$ 'nin alabileceği değerler toplamı kaçtır?

- A) 9    B) 8    C) 7    D) 6

- 12.



Şekildeki ABCD dik yamuğunda  $[DC] \perp [CB]$  ve  $[CB] \perp [AB]$ 'tir.

$$m(\widehat{DAE}) = m(\widehat{EAB}),$$

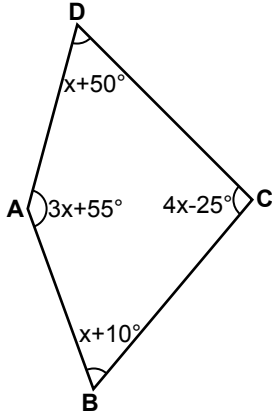
$$m(\widehat{EDA}) = m(\widehat{CDE}),$$

$|DC| = 2$  cm ve  $|AD| = 10$  cm olduğuna göre  $|AB|$  kaç santimetredir?

- A) 8    B) 9    C) 10    D) 12

## 1. OTURUM

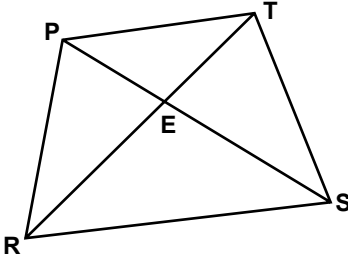
13.



Şekildeki ABCD dörtgeninde  $m(\widehat{ABC}) = x + 10^\circ$ ,  
 $m(\widehat{BCD}) = 4x - 25^\circ$ ,  
 $m(\widehat{CDA}) = x + 50^\circ$  ve  
 $m(\widehat{DAB}) = 3x + 55^\circ$  olduğuna göre  $x$  kaç derecedir?

- A) 30 B) 35 C) 40 D) 45

14.



Şekildeki PRST dörtgeninde,  $[PS]$  ve  $[TR]$  köşegendir.

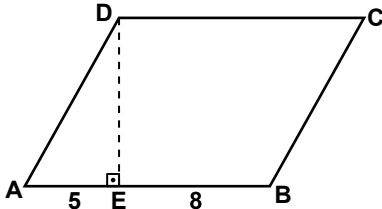
$$A(\widehat{PET}) = 6 \text{ cm}^2,$$

$$A(\widehat{PRE}) = 9 \text{ cm}^2 \text{ ve}$$

$A(\widehat{ERS}) = 18 \text{ cm}^2$  olduğuna göre  $A(\widehat{TES})$  kaç santimetrekaredir?

- A) 8 B) 12 C) 15 D) 18

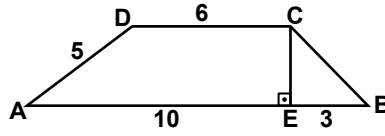
15.



Şekildeki ABCD eşkenar dörtgeninde  $[DE] \perp [AB]$ 'tir.  $|AE| = 5 \text{ cm}$  ve  $|EB| = 8 \text{ cm}$  olduğuna göre  $A(ABCD)$  kaç santimetrekaredir?

- A) 78 B) 104  
C) 130 D) 156

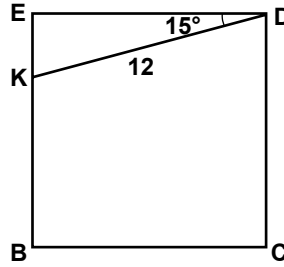
16.



Şekildeki ABCD yamuğunda  $[DC] \parallel [AB]$  ve  $[CE] \perp [AB]$ 'tir.  $|DC| = 6 \text{ cm}$ ,  $|DA| = 5 \text{ cm}$ ,  $|AE| = 10 \text{ cm}$  ve  $|EB| = 3 \text{ cm}$  olduğuna göre  $|CB|$  kaç santimetredir?

- A)  $2\sqrt{7}$  B)  $3\sqrt{3}$   
C)  $2\sqrt{5}$  D)  $3\sqrt{2}$

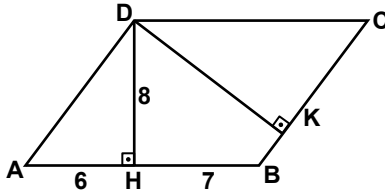
17.



Şekildeki BCDE karesinde,  $m(\widehat{KDE}) = 15^\circ$  ve  $|DK| = 12 \text{ cm}$  olduğuna göre  $|BK|$  kaç santimetredir?

- A) 6 B)  $6\sqrt{2}$   
C) 8 D)  $8\sqrt{2}$

18.



Şekildeki ABCD paralelkenarında  $[DH] \perp [AB]$ ,  $[DK] \perp [BC]$ 'tir.

$|DH| = 8 \text{ cm}$ ,  $|AH| = 6 \text{ cm}$  ve  $|HB| = 7 \text{ cm}$  olduğuna göre  $|DK|$  kaç santimetredir?

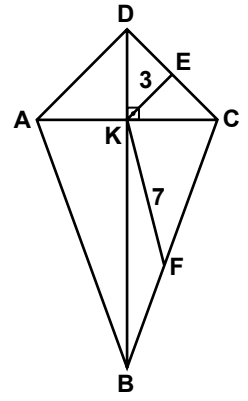
- A) 10 B) 10,4  
C) 12 D) 12,4

19.

İç açılarının ölçüleri toplamı  $1800^\circ$  olan düzgün bir çokgenin kaç tane köşegeni vardır?

- A) 24 B) 34 C) 54 D) 64

20.



Şekildeki ABCD deltoidinde  $[AC]$  ve  $[DB]$  köşegendir.  $|AD| = |CD|$  ve  $|AB| = |BC|$ 'tir.  $|DE| = |EC|$ ,  $|CF| = |FB|$ ,  $|KE| = 3 \text{ cm}$  ve  $|KF| = 7 \text{ cm}$  olduğuna göre ABCD deltoidinin çevresi kaç santimetredir?

- A) 40 B) 38 C) 36 D) 34

### (164) MATEMATİK - 4

1.  $i^{10} + i^{11} + i^{12}$  ifadesi aşağıdaki-lerden hangisine eşittir?

- A)  $-i$  B)  $i$   
C)  $1 - i$  D)  $1 + i$

2.  $x^2 - ax + 4 = 0$  denkleminin kökleri gerçekte sayı olduğuna göre aşağıdakilerden hangisi olamaz?

- A)  $-4$  B)  $2$  C)  $4$  D)  $6$

3.  $z_1 = 1 + 2i$  ve  $z_2 = 1 - 3i$  olduğuna göre  $z_1 \cdot z_2$  aşağıdakilerden hangisidir?

- A)  $7 - i$  B)  $5 - i$   
C)  $7 + 5i$  D)  $-5 - i$

4.  $y = x^2 - 4x + 6$  parabolünün tepe noktası  $T(r, k)$  olduğuna göre  $r + k$  kaçtır?

- A) 3 B) 4 C) 5 D) 6

## 1. OTURUM

5.  $2x^2 + x - 6 = 0$  denkleminin kökleri çarpımı kaçtır?

- A)  $-\frac{1}{3}$  B)  $-\frac{1}{6}$   
C)  $-2$  D)  $-3$

6.  $P(x) = x^3 - 2x^2 + 5x - 2$  polinomunun  $x - 2$  ile bölümden kalan kaçtır?

- A) 4 B) 8 C) 12 D) 24

7. Aşağıda verilen fonksiyonlardan hangisi bir polinomdur?

- A)  $f(x) = 4x^3 + \frac{1}{x}$   
B)  $g(x) = \sqrt{x} - 2x^3$   
C)  $h(x) = x^3 + \sqrt{x}$   
D)  $k(x) = 3x^3 + \frac{1}{2}x$

8.  $\frac{x^2 - 3x}{x^2 + x} : \frac{2x - 6}{x^2 + 2x + 1}$  ifadesinin en sade biçimi aşağıdakilerden hangisidir?

- A)  $\frac{x+1}{2}$  B)  $\frac{2(x+1)}{x-3}$   
C)  $\frac{x-3}{2x}$  D)  $\frac{2x}{x+1}$

9.  $x \neq 0$  ve  $x + \frac{1}{x} = 8$  olduğuna göre  $x^2 + \frac{1}{x^2}$  kaçtır?

- A) 31 B) 32 C) 62 D) 64

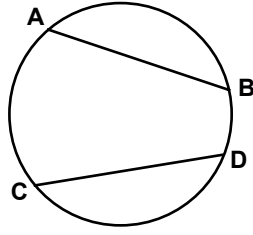
10.  $x + y = 4$  ve  $x \cdot y = 2$  olduğuna göre  $x^3 + y^3$  kaçtır?

- A) 40 B) 38 C) 36 D) 32

11.  $a^2 - b^2 = 36$  ve  $a + b = 12$  olduğuna göre  $a$  kaçtır?

- A) 6 B)  $\frac{13}{2}$  C) 7 D)  $\frac{15}{2}$

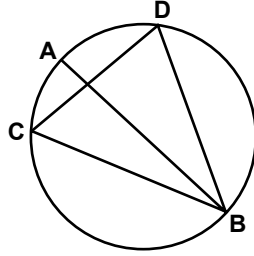
12.



Şekildeki çemberde  $[AB]$  ve  $[CD]$  kiriştir.  $m(\widehat{AB}) = m(\widehat{CD})$ ,  $|AB| = (5x - 1)$  cm ve  $|CD| = (2x + 5)$  cm olduğuna göre  $|AB|$  kaç santimetredir?

- A) 4 B) 7 C) 9 D) 11

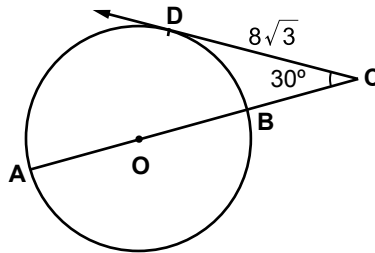
13.



Şekilde C ve D noktaları  $[AB]$  çaplı çember üzerindedir.  $m(\widehat{AC}) = 40^\circ$  olduğuna göre  $m(\widehat{CDB})$  kaç derecedir?

- A) 40 B) 50 C) 60 D) 70

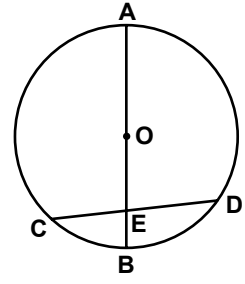
14.



Şekilde  $[CD, O$  merkezli çembere D noktasında teğettir.  $m(\widehat{ACD}) = 30^\circ$  ve  $|CD| = 8\sqrt{3}$  cm olduğuna göre  $|AC|$  kaç santimetredir?

- A) 32 B) 28 C) 24 D) 20

15.

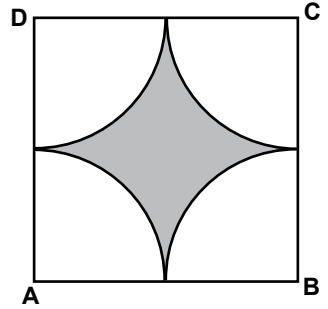


Şekilde A, B, C ve D noktaları, yarıçapının uzunluğu 6 cm olan O merkezli çember üzerinde ve  $[AB] \cap [CD] = \{E\}$ 'tir.

$|EB| = 2$  cm ve  $|ED| = 5$  cm olduğuna göre  $|CE|$  kaç santimetredir?

- A) 5 B) 4 C) 3 D) 2

16.



Şekildeki ABCD karesinin içine A, B, C, D merkezli ve birbirine eş dört çeyrek daire dilimi çizilmiştir. Karenin bir kenarının uzunluğu 8 cm olduğuna göre boyalı bölgenin alanı kaç santimetrekaredir? ( $\pi$  yerine 3 alınız.)

- A) 16 B) 32 C) 40 D) 48

17. Hacmi  $32 \text{ cm}^3$  olan kürenin yarıçapının uzunluğu kaç santimetredir? ( $\pi$  yerine 3 alınız.)

- A) 1 B) 2 C) 3 D) 4

18. Taban yarıçapının uzunluğu 4 cm, yüksekliği 9 cm olan dik dairesel silindirin yanal alanı kaç santimetrekaredir? ( $\pi$  yerine 3 alınız.)

- A) 108 B) 162 C) 180 D) 216

## 1. OTURUM

19. Taban ayrıtlarından birinin uzunluğu 6 cm, yüksekliği 4 cm olan kare dik piramidin hacmi kaç santimetreküptür?

- A) 24 B) 36 C) 48 D) 60

20. Bir ayrıtının uzunluğu 4 cm olan küpün yüzey alanı kaç santimetrekaredir?

- A) 27 B) 54 C) 64 D) 96

### (206) PSİKOLOJİ – 1

1. Aşağıdakilerden hangisi psikolojinin temel amaçlarından?

- A) Organizmanın davranışlarını inceleyerek genel yasalara ulaşmak  
B) İnsanların yaşadığı yerlerin coğrafi özelliklerini araştırmak  
C) İnsanın fiziksel yapı özelliklerini tanımak  
D) Topulukların kültürlerini incelemek

2. Psikoloji, organizmanın yürüme, konuşma, içme, saz çalma gibi davranışlarının yanı sıra, rüya görme, duygulanmak gibi davranışlarını da inceler.

**Buna göre aşağıdaki yargılardan hangisine ulaşılabilir?**

- A) Psikoloji sadece doğrudan gözlenebilen davranışları inceler.  
B) Psikoloji gözlenebilen ve gözlenemeyen tüm davranışları inceler.  
C) Psikoloji insanın çevreye uyum sağlayan davranışlarını inceler.  
D) Doğrudan gözlenemeyen davranışlar psikolojinin inceleme alanına girmez.

3. Davranışsal yaklaşımı kabul eden psikologlara göre davranış "doğrudan gözlenebilen ve ölçülebilen eylemlerdir."

**Davranışçı psikologlara göre aşağıdakilerden hangisi "davranış" olarak kabul edilemez?**

- A) Bisiklete binme  
B) Futbol oynama  
C) Televizyon seyretme  
D) Bir projeyi zihinde tasarlama

4. Okulların fiziksel koşullarının düzenlenmesi, öğrencilerin başarılarını artırma gibi konularda araştırma yapan psikolojinin uzmanlık alanı aşağıdakilerden hangisidir?

- A) Klinik psikoloji  
B) Eğitim psikolojisi  
C) Hukuk psikolojisi  
D) Endüstri psikolojisi

5. Oyuncakları ile oynayan çocuğun davranışlarını ona hissettirilmeden doğal durumda izlenmesi, aşağıdaki araştırma yöntemlerinden hangisine örnek oluşturur?

- A) Test  
B) Anket  
C) Doğal gözlem  
D) Korelasyon

6. Vatani için savaşa katılan askerler açlığı, susuzluğu hatta ölümü bile göze alabilirler.

**Buna göre güdülerle ilgili aşağıdakilerden hangisine ulaşılabilir?**

- A) Bazı durumlarda toplumsal güdüler fizyolojik güdülerden daha önceliklidir.  
B) Fizyolojik güdüler gerçekleşmeden toplumsal güdüler giderilmez.  
C) Her zaman için fizyolojik güdüler baskındır.  
D) Savaşmak her askerin görevidir.

7. Organizmanın uyarıcıyı almaya başladığı en alt ve artık alamadığı en üst sınır arasındaki bölüme psikolojide ne ad verilir?

- A) Dengelenme  
B) Duyum eşiği  
C) Algıda seçicilik  
D) Yetersiz uyarım

8. Organizmaya etki eden, duyu organlarını harekete geçiren her türlü etkiye uyarıcı denir. Uyarıcılar organizmanın içinden ve dışından olabilir.

**Aşağıdakilerden hangisi organizmanın dışından gelen uyarıcılardandır?**

- A) Sıcaklık B) Acıkma  
C) Yorgunluk D) Uyku

9. Algı, duyu organları tarafından alınıp beyne iletilen duyu verilerinin anlamlandırılmasıdır.

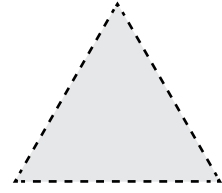
**Buna göre aşağıdakilerden hangisi algılamaya örnektir?**

- A) Koşan sporcunun terlemesi  
B) Uzaklardan bir ses işitilmesi  
C) Karşıdaki belirsiz bir nesnenin parlaması  
D) Alınan tadın elma olduğunun anlaşılması

10. Park halinde yanımızda duran otomobil hareket ettiğinde kendi otomobilimizi hareket ettirmiş gibi algılamamız aşağıdakilerden hangisine örnek olur?

- A) Halüsinasyona  
B) Algıda tamamlamaya  
C) İllüzyona  
D) Algıda değişmezliğe

11.



**Verilen şeklin kesik kesik çizgiler olarak değil üçgen olarak algılanması algıyla ilgili aşağıdakilerden hangisinden kaynaklanmaktadır?**

- A) Algıda biçim değişmezliği  
B) Algıda renk değişmezliği  
C) Algıda tamamlama  
D) Algıda gruplama

12. Aşağıdakilerden hangisi algıda seçiciliği etkileyen dış faktörlerdendir?

- A) Hareket eden uyarıcılar  
B) Kaygı ve sıkıntılar  
C) İlgı ve istekler  
D) İhtiyaçlar

13. Aşağıdakilerden hangisi öğrenme sonucu kazanılan davranıştır?

- A) Örumceğin ağ örmesi  
B) Arının bal yapması  
C) Leyleklerin göç etmesi  
D) Bir çocuğun ağlayarak isteklerini elde etmesi



## 1. OTURUM

14. Alkol kullanımını aşağıdakilerden hangisine neden olmaz?

- A) Trafik kazalarına
- B) Beslenme yetersizliklerine
- C) Uzun vadede iş veriminin artmasına
- D) Kişinin ruh sağlığının bozulmasına

15. I. Öğrenmede ilerlemenin bilinmesi yararlıdır.  
II. Yeterli tekrarlar yapmak başarıyı artırır.  
III. Aralıklı öğrenme daha verimli olur.

**Öğrenme başarısını artırmada yukarıda verilenlerden hangileri doğrudur?**

- A) I ve II
- B) I ve III
- C) II ve III
- D) I, II ve III

16. Aşağıdakilerden hangisinde “çağırışım” söz konusu değildir?

- A) Gelinliğin düğünü anımsatması
- B) Anıtkabir’in Ankara’yi anımsatması
- C) Beyaz tavşanın karanlıkta beyaz olarak algılanması
- D) 1453 yılının İstanbul’un fethini hatırlatması

17. Önceden belenmiş olan ama o anda aklımızda aktif durumda olmayan bilgilerin bir uyarı ile zihinde canlanması aşağıdaki kavramlardan hangisiyle ifade edilir?

- A) Kodlama
- B) Hatırlama
- C) Ket vurma
- D) Unutma

18. İnsan yalnızca var olan değildir, aynı zamanda kendini var olan olarak algılayabilen, duygularının ve yaptıklarının farkında olandır.

**Açıklaması yapılan kavram aşağıdakilerden hangisidir?**

- A) Bilinç
- B) Hipnoz
- C) Meditasyon
- D) Biyolojik saat

19. Aşağıdakilerden hangisi uyku bozukluklarından biri değildir?

- A) Aşırı uyku
- B) Kesintili uyku
- C) Uykuya dalma güçlüğü
- D) Uyku sırasında rüya görülmesi

20. Çözümlemeyen bir fizik probleminin parçaları arasındaki ilişkinin birdenbire görülmesi, öğrenme türlerinden hangisine örnektir?

- A) Klasik koşullanma yoluyla öğrenme
- B) Kavrama yoluyla öğrenme
- C) Model alarak öğrenme
- D) Motor öğrenme

### (209) SOSYOLOJİ – 2

1. Bir kültürün başka bir kültürü kendi içinde eriterek yok etmesi şeklinde tanımlanan kavram aşağıdakilerden hangisidir?

- A) Kültürel asimilasyon
- B) Kültürel katılma
- C) Kültürel farklılık
- D) Kültürel kimlik

2. Kültürün maddi unsurlarının hızlı değişmesine rağmen manevi unsurların bu değişime uyum sağlayamaması durumu hangi kavramla ifade edilir?

- A) Kültürel çatışma
- B) Kültürel gecikme
- C) Kültürel benzeşme
- D) Kültürleşme

3. Aşağıdakilerden hangisi toplumsal kurumların temel özelliklerinden değildir?

- A) Toplumsal ihtiyaçları giderirler.
- B) Toplumsal kurumlar birbirleriyle ilişki içindedir.
- C) Kurumlar, yapıları değişmeden varlıklarını sürdürürler.
- D) Bir toplumsal kurumdaki değişim diğer toplumsal kurumları da etkiler.

4. Aşağıdakilerden hangisi ailenin psikolojik işlevidir?

- A) Çocuğa, içinde yaşadığı toplumun kültürünü öğretme
- B) Aile üyelerinin sevgi, saygı gibi duygusal ihtiyaçlarını sağlama
- C) Aile üyelerinin beslenme, barınma gibi ihtiyaçlarını karşılama
- D) Neslin devamını sağlama

5. Ülkemizde “iç güveysi” olarak adlandırılan, evlenen erkeğin kadının ailesiyle birlikte oturması şeklinde açıklanan evlenme türü aşağıdakilerden hangisidir?

- A) Matrilokal
- B) Patrilokal
- C) Neolokal
- D) Egzogami

6. Aşağıdakilerden hangisi çekirdek ailenin özelliklerinden değildir?

- A) Tek eşliliğe dayanır.
- B) Kadın-erkek eşitliğine dayanır.
- C) Akrabalık sadece baba tarafından geçer.
- D) Evlenme ve boşanma hukuk kurallarına göre düzenlenir.

7. Aşağıdakilerden hangisi dinin bireysel işlevidir?

- A) Toplumsal düzeni sağlamaya çalışması
- B) İnananlar arası dayanışmayı artırması
- C) Toplumsal bütünleşmeye katkı sağlaması
- D) Yaşamı anlamlandırarak, kişiye ümit vermesi

8. Aşağıdakilerden hangisi laik devletin özelliklerinden değildir?

- A) Devletin din karşısında tarafsızlığını yitirmesi
- B) Devletin inanç özgürlüklerini güvenceye alması
- C) Bireylerin din, vicdan ve inanç hürriyetine sahip olması
- D) Bireylerin inancını özgürce yaşaması



## 1. OTURUM

9. Aşağıdakilerden hangisi kültürün genel özelliklerinden değildir?

- A) Kültür toplumsaldır.
- B) Kültür tarihseldir.
- C) Kültür zamanla değişir.
- D) Kültür kalıtım yoluyla kuşaklara aktarılır.

10. Bir mal, ihtiyaçlarımızı doğrudan karşılıyorsa tüketim malı, ihtiyaçlarımızı dolaylı olarak karşılıyorsa ve bir başka malın üretilmesinde kullanılıyorsa üretim malıdır.

**Buna göre aşağıdakilerden hangisi üretim malıdır?**

- A) Televizyon
- B) Otomobil
- C) Peynir
- D) Çimento

11. Aşağıdakilerden hangisi iş bölümünün yararlarından değildir?

- A) Toplum üyeleri arasında işbirliğini geliştirir.
- B) Kısa sürede daha fazla iş yapılmasını sağlar.
- C) Hep aynı işi yapan bireyde yabancılaşma duygusu başlar.
- D) Bireylere istekli olduğu alanda çalışma imkanı sağlar.

12. I. Vatandaşların ekonomik, sosyal ve kültürel ihtiyaçlarını gidermek  
II. Ülke sınırları içinde ve dışında milli çıkarları korumak  
III. İç ve dış tehlikelere karşı ülkenin bağımsızlığını korumak

**Verilenlerden hangileri devletin işlevlerindedir?**

- A) I ve II
- B) I ve III
- C) II ve III
- D) I, II ve III

13. Egemenliğin kaynağını halkın iradesine dayandıran devlet biçimi hangisidir?

- A) Monarşik devlet
- B) Demokratik devlet
- C) Oligarşik devlet
- D) Aristokratik devlet

14. Aşağıdakilerden hangisi Türkiye Cumhuriyeti'nin kuruluşundan önce yapılan toplumsal değişimlendendir?

- A) Soyadı Kanunu'nun çıkarılması
- B) Medenî Kanun'un kabul edilmesi
- C) Kanun-ı Esasî'nin ilan edilmesi
- D) Halifeliğin kaldırılması

15. "Ülkeyi yönetmek için kurulan ve belirli bir programı olan örgütlenmiş gruplardır."

**Tanımı verilen kavram aşağıdakilerden hangisidir?**

- A) Parlamento
- B) Siyasi parti
- C) Meşruyet
- D) Egemenlik

16. Demokratik devletin temel özelliklerinde biri de yasama, yürütme ve yargı yetkilerinin baskıcı bir yönetim oluşturmamak için farklı organlara verilmesidir.

**Demokratik devletin bu özelliği aşağıdaki kavramlardan hangisi ile ifade edilir?**

- A) Güçler ayrılığı
- B) Yargının bağımsızlığı
- C) Hukukun üstünlüğü
- D) Kuvvetler birliği

17. Bir toplumda eğitim, ekonomi teknoloji gibi alanlarda meydana gelen olumlu değişimler hangi kavramla ifade edilir?

- A) Gerileme
- B) İlerleme
- C) İsyân
- D) İhtilal

18. Aşağıdakilerden hangisi "demografik" etkene bağlı toplumsal değişimdir?

- A) Kitle iletişim araçlarının yaygınlaşması
- B) Nüfus artış hızı
- C) Doğal zenginliklerden yoksun kalmak
- D) Ekonomik gelişmelerin hızlanması

19. Aşağıdakilerden hangisi toplumsal gelişmenin unsurlarından değildir?

- A) Toplumsal bütünleşme
- B) Orta tabaka genişlemesi
- C) Milli birlik bilincinin zayıflaması
- D) Ekonomik büyüme

20. Aşağıdakilerden hangisi toplumsal çözülmeye neden olur?

- A) Eğitimde fırsat eşitliğinin olması
- B) Vatandaşlar arasında ayırım gözetilmemesi
- C) Milli gelirin adil paylaşılması
- D) Demokratik kurumlaşma yeter-sizliği

(242) İNGİLİZCE – 3

1 - 20. sorularda boş bırakılan yere uygun gelen kelime veya ifadeyi işaretleyiniz.

1. There are two books on the desk. Which one is - - - - ?

- A) yours
- B) your
- C) you
- D) yourself

2. Our English teacher is very punctual. She is - - - - late for the lessons.

- A) often
- B) never
- C) usually
- D) always

3. Be quiet, please. The baby is sleeping - - - - .

- A) yesterday
- B) every day
- C) next week
- D) at the moment

4. Metin - - - - an engineer next year.

- A) is going to be
- B) had been
- C) has been
- D) was

5. My father usually - - - - to work by car.

- A) go
- B) to go
- C) goes
- D) is going

## 1. OTURUM

6. They are going to move their new house - - - - .  
A) next week B) at the moment  
C) yesterday D) often
7. Serkan is a mechanic. He - - - - a car at the moment.  
A) is going to fix  
B) is fixing  
C) will fix  
D) fixed
8. - - - - people are there on the bus now?  
A) How long B) How many  
C) How often D) How much
9. What time does your father - - - - to work?  
A) goes B) went  
C) go D) going
10. Ali bought a - - - - last week.  
A) new black leather jacket  
B) black jacket new leather  
C) leather black new jacket  
D) jacket new leather black
11. Hasan loves cooking. He often - - - - his mother in the kitchen.  
A) helping B) helps  
C) helped D) help
12. The walls of my house are very dirty, so - - - - .  
A) they will buy a new car  
B) we are flying to London next week  
C) he has wonderful paintings in his room  
D) I am going to paint them at the weekend
13. A: - - - - often do you visit your relatives?  
B: Every month.  
A) How B) Why  
C) What D) Where

14. Selma doesn't like fast-food. She - - - - eats fatty food.  
A) always B) often  
C) never D) usually
15. A: Do you need anything for the cookies?  
B: We need - - - - butter and - - - - eggs.  
A) a little / much  
B) a few / many  
C) many / much  
D) some / a few
16. Can I get - - - - cup of coffee, please?  
A) a B) an  
C) any D) some
17. I haven't got - - - - money left.  
A) these B) any  
C) some D) a
18. Look! Isn't - - - - Mehmet's car over there?  
A) those B) these  
C) that D) this
19. Don't speak loudly - - - - you will wake the baby up.  
A) nor B) but C) yet D) or
20. The sun is shining and it is hot outside - - - - the sea isn't warm enough.  
A) or B) so C) but D) and

(242) ALMANCA – 3

1 - 15. sorularda boş bırakılan yere uygun gelen kelime veya ifadeyi işaretleyiniz.

1. Die Kinder schlafen im - - - - .  
A) Küche  
B) Garage  
C) Schlafzimmer  
D) Badezimmer

2. Der Teppich liegt - - - - dem Boden.  
A) auf B) in C) um D) zur
3. A: Woher kommen Sie?  
B: - - - - Deutschland.  
A: Wo wohnen Sie?  
B: - - - - der Türkei.  
A) In / Aus B) Aus / In  
C) Aus / Aus D) In / In
4. A: - - - - fliegst du nach Spanien?  
B: Morgen um zehn Uhr.  
A) Wie B) Wohin  
C) Warum D) Wann

5.



Wo ist die Lampe?

Die Lampe ist - - - - dem Tisch

- A) unter B) auf  
C) neben D) zwischen
6. Ich werde heute - - - - 18 Uhr arbeiten.  
A) bis B) am C) zu D) bei
7. Mein Vater hat 25 Jahre lang als Lehrer - - - - .  
A) arbeiten B) gearbeitet  
C) arbeitete D) arbeitet
8. Ayşe muss jeden Tag - - - - 8 Uhr - - - - 15 Uhr in die Schule gehen.  
A) um / zu B) bis / von  
C) von / bis D) ab / zu
9. Ich habe Bauchschmerzen, - - - - ich zu viel gegessen habe.  
A) dass B) denn  
C) aber D) weil

## 1. OTURUM

10. Ein Kapitän - - - - Schiffe.

- A) fahre            B) fährt  
C) fahren        D) gefahren

11.



Was ist sein Beruf?  
Er ist - - - - .

- A) Sportler        B) Mechaniker  
C) Ingenieur      D) Koch

12. Im Kino - - - - man Filme an.

- A) lernt            B) liest  
C) schaut         D) sitzt

13. laufen, - - - -, gelaufen  
(Präteritum)

- A) laufe            B) läuft  
C) lauft            D) lief

14. Klaus : Ali! - - - - hast du  
Deutsch gelernt?

Ali : In der Schule.

- A) Was             B) Wer  
C) Woher         D) Wo

15. Wir - - - - morgen eine  
Klassenarbeit schreiben.

- A) haben           B) werden  
C) sein             D) machen

16. Verilen sözcüklerden bir grup  
oluşturulduğunda hangisi  
farklıdır?

- A) Schule         B) Regen  
C) Schnee        D) Sonne


17.



Wie ist das Wetter?

- A) sonnig           B) regnerisch  
C) windig          D) wolkig

18.



Was ist das?

- A) ein Bild        B) eine Tür  
C) ein Fenster    D) ein Tisch

19. Hangi seçenekte sıfatların zıt  
anlamlısı yanlış verilmiştir?

- A) warm x kalt  
B) schnell x langsam  
C) reich x arm  
D) dünn x schlank

20. Aşağıdakilerden hangisi bileşik  
kelime değildir?

- A) Grundschule  
B) Haustür  
C) Schokolade  
D) Fußball

### (242) FRANSIZCA – 3

1 - 15. sorularda boş bırakılan  
yere uygun gelen kelime  
veya ifadeyi işaretleyiniz.

1. Les jeunes mangent - - - - le  
match de foot à la télé.

- A) en regardant  
B) écouter  
C) en buvant  
D) regarder

2. Le professeur - - - - du thé  
porte une belle veste.

- A) jouent           B) en jouant  
C) boire            D) buvant

3. Paul fait des petites réparations à  
la maison en - - - - de la musique.

- A) voyageant      B) écoutant  
C) dansant        D) sachant

4. Ils ne vont pas - - - - la plage  
- - - - moto.

- A) au / en          B) à / à  
C) en / à          D) en / aux

5. Pour acheter de la viande, je  
vais à - - - - .

- A) l'épicerie      B) la librairie  
C) la boucherie   D) le restaurant

6. A: Paul a vingt ans?

B: Non, - - - - a dix-huit ans.

- A) tu    B) il    C) ils    D) elle

7. A: Marc, tu vois le petit garçon  
à la casquette bleue?

B: Oui, je - - - - vois.

- A) le    B) la    C) te    D) les

8. A: Est-ce que tu n'aimes pas  
les chansons de Berkant?

B: Mais si, je - - - - aime  
beaucoup.

- A) la                B) leurs  
C) les              D) nous

9. A: As-tu donné du gâteau à tes  
copains?

B: Oui, je - - - - en ai donné.

- A) lui    B) la    C) le    D) leur

10. A: Est-ce que tu connais  
quelqu'un à Lyon?

B: Non, je ne connais - - - - à  
Lyon.

- A) personne      B) quelque chose  
C) rien             D) depuis

## 1. OTURUM

11. Je n'aime pas les gens - - - - ne sourient jamais.

- A) où B) qui C) que D) ou

12. Comme il - - - - , nous restons à la maison.

- A) venu B) neigé  
C) plu D) pleut

13. A: Je ne bois pas cela.  
B: Dis-moi - - - - tu bois, alors!

- A) depuis B) ce qui  
C) ce que D) pour

14. A : Tu as déjà vu Disneyland à Paris?

B : Oui, je l'ai vu - - - - .

- A) après-demain  
B) le mois prochain  
C) demain  
D) l'an dernier

15. A: Daniel habite dans cette rue?

B: Oui, il - - - - habite depuis sept mois.

- A) au B) à la C) y D) en

16. "Mon mari et ma fille font des exercices physiques." cümlesinde altı çizili sözcüklerin yerine aşağıdaki şahıs zamirlerinden hangisi konulabilir?

- A) Ils B) Nous  
C) Vous D) Elles

17 ve 18. sorularda verilen cümlelerin Türkçe karşılığını işaretleyiniz.

17. J'ai aperçu Zeynep en entrant dans le restaurant.

- A) Zeynep'i lokantada yemek yerken gördüm.  
B) Zeynep'le lokantada yemek yedik.  
C) Zeynep lokantada yemek yerken görüldü.  
D) Zeynep'i lokantaya girerken fark ettim.

18. Sylvie travaille en écoutant la radio.

- A) Sylvie radyosunu kapatarak çalışmaya başladı.  
B) Sylvie radyo dinlerken ders çalışıyor.  
C) Sylvie radyo dinlerken kahvaltısını yapıyor.  
D) Sylvie radyo dinlerken uyuyakaldı.

19 ve 20. sorularda verilen cümlelerin Fransızca karşılığını işaretleyiniz.

19. İzmir'de çalışan arkadaşlarını arıyor.

- A) Il cherche ses amis travaillant à İzmir.  
B) Il a des amis habitant à İzmir.  
C) Ils habitent à İzmir depuis deux ans.  
D) J'habite à İzmir chez une amie.

20. Okuldan çıkarken Sibel'i gördüm.

- A) Sibel a vu l'accident devant l'école.  
B) J'ai rencontré Sibel entrant dans l'école.  
C) J'ai vu Sibel en sortant de l'école.  
D) Elle a vu Sibel sortant de l'école.

### (243) İNGİLİZCE - 4

1 - 20. sorularda boş bırakılan yere uygun gelen kelime veya ifadeyi işaretleyiniz.

1. You - - - - have a driving license to drive a car.

- A) may B) must  
C) could D) can

2. A: I want to be a lawyer.  
B: You - - - - study harder then.

- A) would B) can  
C) should D) may

3. I have never - - - - by a plane before.

- A) travel B) to travel  
C) travelling D) travelled

4. On our first day, we - - - - to the Museum of Anatolian Civilizations in Ankara.

- A) to go B) went  
C) going D) goes

5. When did you - - - - this car?

- A) buy B) buying  
C) bought D) to buy

6. My sister - - - - finished her project work yet.

- A) isn't B) won't  
C) hasn't D) doesn't

7. There are lots of mistakes in your homework. - - - - .

- A) You're very punctual  
B) You should be careful  
C) I think I should wait for a while  
D) I don't like studying on my own

8. Don't drive so fast. - - - - .

- A) You may help poor people  
B) You can have an accident  
C) You should clean your car  
D) You must wake up early

9. - - - - , so everywhere is wet.

- A) I studied harder  
B) You may go out  
C) It has just rained  
D) He has a sport car

10. The first lesson starts - - - - 8:00 a.m. - - - - the mornings.

- A) at / on B) in / on  
C) at / in D) on / at

11. They got married - - - - Saturday last week.

- A) on B) in C) at D) up

12. He went to İzmir three months - - - - .

- A) next B) ago  
C) last D) yesterday

## 1. OTURUM

13.



The car is ---- the bus and the truck.

- A) in front of      B) opposite  
C) behind          D) between

14. You can buy different presents from the ---- shops around the Topkapı Palace.

- A) region          B) capital  
C) souvenir      D) tour

15. Mehmet visited Anıtkabir and ---- places in Ankara yesterday.

- A) historical      B) capital  
C) population    D) mosque

16. İstanbul is ---- than Antalya.

- A) the most crowded  
B) more crowded  
C) crowded as  
D) crowded

17. He won the car race and became the champion. He is ---- driver in the country.

- A) good            B) better  
C) the best        D) well

18. He ---- to work in his new office yesterday.

- A) begins          B) begun  
C) begin            D) began

19. A: Where were you born?  
B: ----.

- A) I was born in Aydın  
B) I was a student in Ankara  
C) I was happy to live in Aydın  
D) I went to Ankara for business

20. ---- I have more cake, please?

- A) Will              B) Would  
C) Should          D) Could

(243) ALMANCA – 4

1 - 17. sorularda boş bırakılan yere uygun gelen kelime veya ifadeyi işaretleyiniz.

1. Alle Kind ---- müssen in die Schule geh ----.

- A) -en / -er      B) - / -t  
C) -er / -en      D) -en / -en

2. Ayşe ist krank, ---- sie kaltes Wasser getrunken hat.

- A) denn            B) wenn  
C) dass            D) weil

3. Wir ---- Deutsch in der Schule.

- A) lernen          B) lernt  
C) lerne            D) gelernt

4. Mein Schulbus kommt jeden Morgen ---- 7 Uhr.

- A) am    B) um    C) bei    D) im

5. Die Katze sitzt vor ---- Fenster.

- A) der    B) die    C) das    D) dem

6. Wir schauen im ---- Fernsehen.

- A) Toilette  
B) Dach  
C) Wohnzimmer  
D) Badezimmer

7. jung, ----, am jüngsten

- A) junge            B) jünger  
C) jüngste          D) jung

8. Fünfundzwanzig, ----, Siebenundzwanzig

- A) Vierundzwanzig  
B) Zwanzigundsechs  
C) Achtundzwanzig  
D) Sechsendzwanzig

9. A: ---- bist du geboren?  
B: In Bursa.

- A) Wie              B) Wer  
C) Wo              D) Was

10. A: Entschuldigung, ---- kann ich zur Post gehen?  
B: Gehen Sie geradeaus. Die Post ist auf der rechten Seite.

- A) wie    B) was    C) wo    D) wer


11. A: Wann musst du zum Arzt gehen?  
B: ----- 10 Uhr.

- A) Im    B) Um    C) Am    D) Bei

12. A: ---- gehst du?  
B: Ich gehe zum Arzt.

- A) Wohin          B) Woher  
C) Warum        D) Was

13.



Was ist das?  
Das ist ein ----.

- A) Esel              B) Pferd  
C) Hund            D) Katze

14. Das ---- Hemd ist sehr teuer.


- A) weiß            B) weißer  
C) weißen        D) weiße

15. Der Junge, ---- aus der Türkei kommt, spricht gut Deutsch.

- A) der    B) die    C) das    D) er

## 1. OTURUM

16.



A: **Wie spät ist es?**

B: **Es ist - - - - .**

- A) fünf Uhr  
B) fünf vor fünf  
C) fünf nach fünf  
D) halb fünf

17. **Thomas hat neue Schuhe gekauft. Er sagt sie - - - - sehr teuer.**

- A) hätte                      B) wäre  
C) seien                      D) würden

18. **Aşağıdakilerden hangisi bir gruplama yapıldığında diğerlerinden farklıdır?**

- A) Montag                      B) Minute  
C) Mittwoch                      D) Donnerstag

19. **Kurallı bir cümle oluşturunuz.**

$\frac{\text{ein}}{1} / \frac{\text{kaufen}}{2} / \frac{\text{im Supermarkt}}{3}$   
/  $\frac{\text{Klaus und Ayşe}}{4}$

- A) 3 / 1 / 2 / 4    B) 1 / 3 / 4 / 2  
C) 2 / 4 / 1 / 3    D) 4 / 2 / 3 / 1

20. **Aşağıdaki sözcüklerden hangisinin Almanca karşılığı yanlış verilmiştir?**

- A) uyumak : schlafen  
B) okumak : lesen  
C) satın almak : schreiben  
D) unutmak : vergessen

### (243) FRANSIZCA – 4

**1 - 18. sorularda boş bırakılan yere uygun gelen kelime veya ifadeyi işaretleyiniz.**

1. **Lorsque l'agent de police a sifflé, je garais - - - - .**

- A) notre clé                      B) son tableau  
C) mon camion                      D) ta fenêtre

2. **Quand je me sens fatigué, je - - - - une douche.**

- A) prenais                      B) prends  
C) prend                      D) as pris

3. **A: Tu bois - - - - ?**

**B: Non merci, je n'en bois pas.**

- A) des olives  
B) du thé  
C) des pommes  
D) de la salade

4. **Un - - - - de Van Gogh a été volé dans un musée du Caire.**

- A) déclaration                      B) tarte  
C) tableau                      D) poche

5. **Si vous receviez une lettre - - - -, que feriez-vous?**

- A) sportif                      B) anonyme  
C) prudent                      D) violent

6. **Pour déclarer un vol, on va - - - - .**

- A) au commissariat de police  
B) à la pharmacie  
C) à la mairie  
D) au café

7. **- - - - est une personne qui vole le bien d'autrui.**

- A) Le vendeur  
B) Le peintre  
C) Le photographe  
D) Le voleur

8. **Si tu vas - - - - Bodrum, tu peux voyager en bateau.**

- A) en                      B) à la  
C) à                      D) aux

9. **- - - - sommes en automne, mais bientôt ce sera l'hiver.**

- A) Notre                      B) Vous  
C) Ils                      D) Nous

10. **Ayşe a les yeux bleus, Serap et Levent, - - - - ont les yeux marron.**

- A) elles                      B) il  
C) ils                      D) elle

11. **Ne prenez pas cette cravate-ci, mais - - - - .**

- A) ceux-là                      B) celle-là  
C) celles-là                      D) celui-ci

12. **Serkan n'a pas de voiture, mais il prend - - - - de son frère.**

- A) celle                      B) celui-là  
C) celles                      D) ceux-ci

13. **Seyhan pèse 75 kg. Erhan pèse 70 kg.**

**Erhan est - - - - gros que Seyhan.**

- A) autant                      B) moins  
C) aussi                      D) plus

14. **Erman prend trois cafés par jour. Sinan aussi.**

**Erman prend - - - - de cafés que Sinan.**

- A) autant                      B) moins  
C) aussi                      D) plus

15. **Usain Bolt est l'homme - - - - rapide du monde.**

- A) les moins                      B) la plus  
C) le plus                      D) la moins

## 1. OTURUM

16. A: Ce sont tes clés?

B: Oui, ce sont - - - - .

- A) les leurs      B) les siens  
C) les tiens      D) les miennes

17. A: Ma voiture est rapide. Et la tienne?

B: - - - - aussi est rapide.

- A) La mienne      B) Les miennes  
C) Le mien      D) Les miens

18. - - - - je suis très fatigué, j'écoute de la musique.

- A) Combien      B) Comment  
C) Où      D) Quand

19. Aşağıdaki cümlelerin hangisinde "passé composé" kullanılmıştır?

- A) Tu as vu mon porte-monnaie?  
B) Il va jouer au tennis avec moi.  
C) Je viens de regarder partout.  
D) Prenez des cours de français.

20. "Je vais prendre un café." cümlesinde hangi zaman kullanılmıştır?

- A) Futur  
B) Présent  
C) Passé composé  
D) Futur proche

### (244) İNGİLİZCE – 5

1 - 20. sorularda boş bırakılan yere uygun gelen kelime veya ifadeyi işaretleyiniz.

1. What - - - - you - - - - when you were in Erzurum?

- A) will / do  
B) have / done  
C) did / use to do  
D) are / use to do

2. - - - - the teacher was answering the question, the manager got into the class.

- A) Where      B) While  
C) Before      D) Since

3. I - - - - properly for two weeks.

- A) was sleeping  
B) haven't slept  
C) hasn't slept  
D) slept

4. I can't hear you. Can you speak more - - - - ?

- A) comfortably      B) carelessly  
C) loudly      D) slowly

5. My friends - - - - that TV show last night.

- A) have watched  
B) are watching  
C) has watched  
D) watched

6. I - - - - a luxurious house in Ankara in the future.

- A) will buy      B) buy  
C) bought      D) have bought

7. What - - - - she - - - - when you saw her?

- A) does / do      B) has / done  
C) was / doing      D) are / doing

8. Where - - - - he - - - - next summer?

- A) will / go      B) does / go  
C) was / going      D) were / going

9. I haven't slept - - - - I saw him.

- A) since      B) for  
C) last      D) from

10. I was walking in the park - - - - I saw a very big dog.

- A) as soon as      B) because  
C) while      D) when

11. Your balcony is bigger - - - - ours.

- A) then      B) than  
C) after      D) from

12. Maggy talks - - - - than Alice.

- A) more      B) much  
C) many      D) most

13. It has - - - - heavily. Everywhere is wet.

- A) washed      B) rained  
C) stayed      D) visited

14. The Atlantic Ocean is - - - - than the Pacific Ocean.

- A) smaller      B) taller  
C) cheaper      D) easier

15. Turtles walk more - - - - than rabbits.

- A) easily      B) politely  
C) slowly      D) happily

16. We - - - - be close friends in the past.

- A) must      B) have to  
C) should      D) used to

17. They don't like comedy films, - - - - ?

- A) did they      B) will they  
C) have they      D) do they

18. Let's go for a walk, - - - - ?

- A) will you      B) will we  
C) shall we      D) shall you

19. Mario never comes to school on time, - - - - ?

- A) did he      B) does he  
C) didn't he      D) doesn't he

20. Don't spend too much time on the Net, - - - - ?

- A) will you      B) don't they  
C) does he      D) didn't we

## 1. OTURUM

(244) ALMANCA – 5

1. "Frühling" mevsiminin ayları hangisidir?

- A) Juni / Juli / August
- B) Dezember / Januar / Februar
- C) September / Oktober / November
- D) März / April / Mai

2. Aşağıdaki sözcüklerden hangisinin Almanca karşılığı yanlış verilmiştir?

- A) daha az : weniger
- B) daha yavaş : schneller
- C) daha uzun : länger
- D) daha çok : mehr

3 - 20. sorularda boş bırakılan yere uygun gelen kelime veya ifadeyi işaretleyiniz.

3. Die Geschäfte sind nur ----- der Woche geöffnet.

- A) bei B) in C) im D) zu

4. Zwischen 13:00 und 17:00 Uhr ist -----.

- A) Morgen B) Mittag
- C) Nachmittag D) Abend

5. Ein Jahr hat zwölf -----.

- A) Tage B) Wochen
- C) Monate D) Jahre

6. Mein Onkel hat ----- neues Haus mit Garten gekauft.

- A) einen B) eine
- C) eines D) ein

7. Diesel ist ----- als Benzin.

- A) billiger B) teuer
- C) lauter D) kleiner

8.



Mehmet 1.60 cm Thomas 1.60 cm

Thomas ist ----- lang wie Mehmet.

- A) kleiner B) genauso
- C) größer D) so wie

9. Die Türkei ist ----- als Deutschland.

- A) groß B) größer
- C) großes D) am größten

10. Nach der Zahl 26 kommt ----- (27).

- A) fünfundzwanzig
- B) siebzehn
- C) siebenundzwanzig
- D) siebzig

11. Ich ----- nächstes Jahr in eine andere Schule gehen.

- A) werde B) habe
- C) bin D) lerne

12. Mein Vater arbeitet jeden Tag ----- 18:00 Uhr.

- A) denn B) wie
- C) vom D) bis

13. Sie ----- jeden Tag Tischtennis.

- A) spielt B) Spiel
- C) spiele D) spielst

14. Du ----- Jeden Abend deine Zähne putzen.

- A) soll B) sollen
- C) sollte D) sollst

15. Die Lehrerin ----- uns eine Geschichte.

- A) lese B) liest
- C) lesen D) gelesen


16. Hakan (11) ist ----- Mehmet (19).

- A) jung B) alt
- C) so D) jünger als

17. Wir wohnen ----- 5 Jahren in Ankara.

- A) seit B) bis C) bei D) um

18.



A: Wie spät ist es?

B: Es ist -----.

- A) Viertel vor elf
- B) Viertel nach elf
- C) Viertel vor zwölf
- D) Viertel nach zwölf

19. A: Wann ist Hatice geboren?

B: Sie ist ----- 24. März geboren.

- A) am B) im C) um D) bei

20. A: Wo ist Mehmet?

B: Er ist ----- Hause.

- A) bei B) um C) zu D) an der

(244) FRANZISCA – 5

1 - 15. sorularda boş bırakılan yere uygun gelen kelime veya ifadeyi işaretleyiniz.

1. ----- il fait beau, je vais à la chasse avec mon chien.

- A) Comment B) Pourquoi
- C) Combien D) Quand



## 1. OTURUM

2. Je suis resté au Japon - - - - une année.

- A) pendant B) enfin  
C) il y a D) pour

3. Nous irons - - - - ensemble pour faire du ski.

- A) au musée B) à la montagne  
C) au stade D) à la mer

4. - - - - je suis sortie du bureau à dix-neuf heures.

- A) Demain  
B) L'année prochaine  
C) Mardi prochain  
D) Mardi dernier

5. C'est l'école primaire - - - - je suis le directeur.

- A) où B) que  
C) dont D) qui

6. Sont- - - - partis à l'école à pied?

- A) ils B) nous  
C) elle D) vous

7. - - - - veux me reposer à la campagne.

- A) Elles B) Je  
C) Tu D) Elle

8. Candan Erçetin est une chanteuse - - - - chante aussi en français.

- A) ce qui B) ce que  
C) qui D) que

9. Voilà le quartier - - - - j'ai habité pendant deux ans.

- A) ce que B) que  
C) ce qui D) où

10. Le pull - - - - je porte est en coton.

- A) donc B) qui  
C) que D) où

11. Les enfants apprennent beaucoup de choses - - - - la télé.

- A) regardez B) en regardant  
C) regardé D) regarder

12. Arda - - - - au football à l'équipe de Barcelone est sympa.

- A) jouant B) en jouant  
C) jouer D) jouent

13. Nous faisons de l'aérobic en - - - - de la musique.

- A) écoute B) écouter  
C) écoutant D) écoutons

14. Ils ne vont pas - - - - l'école - - - - pied.

- A) aux / en B) en / en  
C) à / en D) à / à

15. Pour me baigner, je vais - - - - .

- A) à la mer B) à la mairie  
C) à la librairie D) au café

16. "M. et Mme Dubois ont pris l'avion pour Nice." cümlesinde altı çizili sözcüklerin yerine aşağıdaki şahıs zamirlerinden hangisi konulabilir?

- A) Vous B) Nous  
C) Ils D) Elles

17 ve 18. sorularda verilen cümlelerin Türkçe karşılığını işaretleyiniz.

17. Il a vu son fils regardant le match de tennis.

- A) Oğlunu tenis oynarken izliyor.  
B) Tenis maçı izleyen oğlunu gördü.  
C) Tenis oynarken birden oğlunu fark etti.  
D) Tenis oynayan oğlunu izliyordu.

18. Temel lit le journal en écoutant la radio.

- A) Temel gazete okurken radyo dinleyemez.  
B) Temel radyo dinlerken gazete okuyor.  
C) Temel radyo dinlerken gazete okuyamaz.  
D) Temel gazete okurken radyo dinledi.

19 ve 20. sorularda verilen cümlelerin Fransızca karşılığını işaretleyiniz.

19. Süt içen çocuklar sınıftan çıktılar.

- A) Les enfants buvant du lait sont sortis de la classe.  
B) J'ai vu des enfants buvant du lait dans la rue.  
C) Des enfants veulent boire du lait dans le jardin.  
D) Des enfants prenant du lait entrent dans la classe.

20. Televizyon izlerken ödevlerini yapıyorlardı.

- A) Ils mangeaient devant la télévision.  
B) Ils ont fait leurs valises en regardant la télévision.  
C) Ils s'endormaient en regardant la télévision.  
D) Ils faisaient leurs devoirs en regardant la télévision.

(403) DİL VE ANLATIM – 3

1. - - - -, dilin bilgi verme işlevidir. Amaç, gönderge konusunda doğru, nesnel, gözlenebilir bilgi vermektir. Daha çok bilimsel metinlerde, nesnel anlatımlarda karşımıza çıkar.

Bu parçada boş bırakılan yere aşağıdakilerden hangisi getirilmelidir?

- A) Heyecana bağlı işlev  
B) Göndergesel işlev  
C) Sanatsal işlev  
D) Kanalı kontrol işlevi

## 1. OTURUM

2. Aşağıdakilerden hangisi tartışma başkanının görevlerinden biri değildir?

- A) Konuşmacıları dinleyicilere tanıtmak
- B) Tartışma kurallarına uymayanları uyarmak
- C) Konuşmacılara yerine göre sorular yöneltmek
- D) Tartışmaya ara vererek kendi fikirlerini iletmek

3. Aşağıdakilerden hangisi sunumdan önce yapılması gerekenlerden biridir?

- A) Bilgisayar, mikrofon gibi teknolojik araçlardan faydalanmak
- B) Güncel bir konu seçmek
- C) Ses tonuna, jest ve mimiklere dikkat etmek
- D) Dinleyicilerin sorularını yanıtlamak

4. - - - ile panel, özellikleri yönüyle birbirine çok benzer, arada sadece üslup farkı vardır.

**Bu cümlede boş bırakılan yere aşağıdakilerden hangisi getirilmelidir?**

- A) Sunum
- B) Münazara
- C) Konferans
- D) Açık oturum

5. Söyle sevda içinde türkümüzü  
Aç bembeyaz bir yelken  
Neden herkes güzel olamaz  
Yaşamak bu kadar güzelken?

**Bu dördlüğün teması aşağıdakilerden hangisidir?**

- A) Yaşama sevinci
- B) Vatan sevgisi
- C) Gurbet acısı
- D) Ayrılık

6. Zamanı gelince kuşlar, bulut  
gübü köyün üzerine örelenür.  
Ünsanumuz, büyük küçük o genüş,  
engebelü alana çukup düzülür.  
Kuşlar havada halka halka döner,  
uzun uzun döner. Sonra üstümüze  
hışadanak üneler.

**Bu parçanın anlatımıyla ilgili aşağıdakilerden hangisi söylenemez?**

- A) Hikâye edici ve betimleyici anlatım biçimlerinden yararlanılmıştır.
- B) Yerel söyleyişe yer verilmiştir.
- C) Soyut bir anlatım vardır.
- D) Benzetmeden yararlanılmıştır.

7. Aşağıdakilerin hangisinde anlatım ilahi bakış açısıyla yapılmıştır?

- A) Çıkarken onlara sabaha kadar dönmeyeceğimi söylemiş ve evden kesinlikle ayrılmamalarını tembih etmişim.
- B) Güvendiğimi söyledim size, öyleyse bana gerçeği neden söylemiyorsunuz?
- C) Konuşmadılar, Memed gene derin bir düşünceye dalmıştı; müthiş kin duyarak düşünüyordu.
- D) Köprü başına yaklaşırken neye yoracağımı bilmediğim balta seslerini duydum, köprü başını geçince fırının önündeki kalabalığı gördüm.

8. Aşağıdaki dizelerin hangisinde alışılmamış bağdaştırma vardır?

- A) O akşam, bilseniz ne bahtiyardım,  
Ömrümün en şirin bir gecesiydi!
- B) Kamyonlar kavun taşır ve ben  
Boyuna onu düşünürdüm
- C) Doğrusu anlamadım bir düğün  
dernek mi  
Sonra da kimileri düşünceli,  
durgundu
- D) Nöbetçi bir deniz aradım dün  
gece  
Dertlerimi alacak benden derinliğiyle

9. Aşağıdakilerin hangisinde anlatım bozukluğu vardır?

- A) Zorunlu hizmetini bitirmeden müdürlüğe ataması yapılmayacak.
- B) Maceraperest bir ruh, durağanlıktan asla hoşlanmaz.
- C) Yönetimin aldığı bu kararın çalışanlar üzerindeki tepkileri farklı oldu.
- D) Olası tehlikeleri hesaplayıp şimdiden gerekli önlemleri almıyoruz.

10. Aşağıdakilerin hangisinde "sağlık" konusu diğerlerinden daha çok sınırlandırılmıştır?

- A) Şehir yaşamının çocuk sağlığına etkileri
- B) Sağlığı etkileyen faktörler
- C) Yaşanılan ortamın insan sağlığına etkileri
- D) Şehir yaşamının insan sağlığına etkileri

11. İki arkadaş çaylarını alıp evin balkonuna çıktılar. Mindere oturup yoldan gelip geçeni seyretmeye başladılar. Berna Esma'ya, "İnsanlar ne kadar ilginç değil mi?" dedi.

**Bu parçaya göre iletişimin öğeleri ile ilgili aşağıdakilerden hangisi söylenemez?**

- A) Berna gönderici, Esma alıcıdır.
- B) Yoldan gelip geçenler bağlamdır.
- C) "İnsanlar ne kadar ilginç değil mi?" sözü iletilidir.
- D) Dönüt yoktur.

12. Aşağıdakilerden hangisi sunum sırasında görsel malzemenin kullanım amaçlarından biri değildir?

- A) Sunumu sıkıcılıktan kurtarıp renklendirmek
- B) Fikirleri sağlamlaştırmak
- C) Fikirleri, uzun uzadıya daha ayrıntılı anlatmak
- D) Dinleyicilerin verilen bilgileri daha iyi algılamalarını sağlamak

## 1. OTURUM

13. I. Açık oturum ile özellikleri yönüyle birbirine benzer.  
II. Bir başkan bulunur ve konuşmacı sayısında bir sınırlama yoktur.  
III. Genellikle bilimsel konularda düzenlenir.  
IV. Amaç bir sonuca varmak değil, konuyu çeşitli yönleriyle ortaya koymaktır.

**Yukarıda numaralanmış cümlelerin hangilerinde panel ile ilgili doğru bilgi verilmiştir?**

- A) I ve III. B) I ve IV.  
C) II ve III. D) II ve IV.

14. Sartre "İnsan çevresiyle tutsaktır." diyor. Bunu "İnsan, kişiliğiyle tutsaktır." şeklinde de söyleyebiliriz. İnsan nasıl kişiliğiyle kuşatılmışsa bir ulus da öyledir. Kişi için bellek ya da gizli bellek diyebileceğimiz bilinçaltı neyse toplum için de tarih odur. Dilese de dilemese de sıyrılamaz ondan. Böyle olmasaydı bugün Alman, Fransız, İngiliz, İtalyan edebiyatı, resmi ya da müziği arasında bir ayırım yapamazdık. Yaşam biçimleri ve kültürleri için de ayırım yapamazdık. Oysa bu toplumların tümü de on beşinci, on altıncı yüzyıldan bu yana ortak bir uygarlığın içinde birleşmişlerdir. Üstelik "Batı uygarlığı" gibi ortak bir adla anılmışlardır.

**Bu parça aşağıdaki düşüncelerden hangisine karşı çıkmak için yazılmıştır?**

- A) Her toplumun kendisine özgü bir sanat anlayışı vardır.  
B) Gelişmiş uygarlıklar ancak ortak bir çabayla ortaya çıkar.  
C) Kültürü, bir toplumun edebiyatından ayrı düşünemeyiz.  
D) Uygarlık, toplumların ulusal özelliklerini bir potada eritir.

15. Bütün şiir türlerini içinde toplayan destanlar, atalarımızın eskiden yaptıkları cenklerin hatıralarından başka nedir? Romancıların eserlerinde de çocukluk ve gençlik yıllarının görüntüleri yer alır. Eski trajediler de konularını boşuna mı tarihten ve maziden alır? Şiirlere baktığınızda da yaşanmış bitmiş aşkların şairin belleğindeki o acı tatlı izlerini görürsünüz.

**Bu parçanın konusu aşağıdaki-lerden hangisidir?**

- A) Anıların edebî eserlerin oluşumuna etkisi  
B) Edebî eserlerin en çok işlediği konular  
C) Sanatçıların gerçeğe bakış açısı  
D) Edebî türleri birbirinden ayıran özellikler

16. Her çocuk bulunduğu ortama ve ortamın kültür özelliğine göre dilini kullanır; birtakım değer ve davranışlar geliştirir. Kültür merkezlerinden uzak bölgelerde yaşayan insanların dillerinde farklılıklar görülmektedir. Bir düşün için kullanılan kelimeler bile bölgesel farklılık gösterir. Hatta olaylara karşı kullandığımız tepki sözcükleri de oldukça çeşitlidir.

**Bu parçada vurgulanmak istenen düşünce aşağıdakilerden hangisidir?**

- A) Kültür, bölgeden bölgeye değişiklik göstermektedir.  
B) Dil, kültürün en önemli taşıyıcısıdır.  
C) Dil zamanla değişime uğrayan bir yapıya sahiptir.  
D) Dil, yaşanan çevrenin kültür yapısına göre şekillenmektedir.

17. On iki yaşında var mıydı? Şakaklarından, ensesinden sarkan düz, parlak, koyu siyah saçlar altında sarı, süzgülü, küçük yüzüne; genişlememiş kemikleri üstünde donuk esmer rengiyle zayıf iz düşümleri görülen kaslarına; yırtık gömleğiyle paçaları parçalanmış pantolonunun içinde ince bir değnek gibi duran narin vücuduna bakılsa belki daha küçük zannedilirdi.

**Bu parçada kullanılan anlatım biçimi aşağıdakilerden hangisidir?**

- A) Açıklama B) Tartışma  
C) Betimleme D) Öyküleme

18. **Aşağıdaki cümlelerin hangisinde nesnel bir anlatım vardır?**

- A) Kitabın hazırlıklarına 2000'li yılların başında başlamış.  
B) Bu çalışmayı mükemmel bir antoloji olarak görüyorum.  
C) Eserlerinde konuşma dilini başarıyla kullanmış.  
D) Şiir her okuyanı büyüleyecek bir güzellikteydi.

19. Ünlü sanatçı; güzel konular seçmiş, kısa cümlelerle okuyucuyu etkilemeye, yaptığı uzun tasvirlerle okuyucunun hayal gücünü harekete geçirmeye çalışmış ancak yazarın anlatımında eksik olan bir şey var: Dili başka yazarları hatırlatıyor. Bunları daha önce okumuş gibi bir hisse kapılıyorsunuz.

**Bu parçada sözü edilen sanatçının anlatımındaki eksiklik aşağıdakilerden hangisidir?**

- A) Doğallık B) Duruluk  
C) Özgünlük D) Yalınlık

20. **Aşağıdakilerden hangisi bir paragrafın giriş cümlesi olmaya en uygundur?**

- A) Sanatsallığı ölmüş bir eser de sanat eseri olmaktan çıkar.  
B) Ömer Seyfettin'in hayat dolu hikâyeleri bu özelliği örnekler.  
C) Klasik eserlerin de en önemli özelliklerinden biri zamana dayanabilmeleridir.  
D) Sanatçılara düşen görev, içinde buldukları toplumu eserleriyle aydınlatmaktır.

## 1. OTURUM

### (404) DİL VE ANLATIM – 4

1. Saat ikide, bir saatlik yemek paydosu verildi. Sami kömür ambarına indi. Ambar karanlık, rutubetliydi ama toprak serindi. İri bir maden kömürü parçasını başının altına alıp yorgun vücudunu toprağa bıraktı, hemen uyudu. Düdük sesleriyle uyandığı vakit, kontrolörler ellerinde elektrik lambaları, çocukları işbaşına gönderiyorlardı. Sami de hemen kalktı, makinesinin başına geldi.

**Bu parçada aşağıdaki anlatım türlerinden hangisi kullanılmıştır?**

- A) Söyleşmeye bağlı anlatım  
B) Açıklayıcı anlatım  
C) Emredici anlatım  
D) Öyküleyici anlatım

2. “İnce” sözcüğü aşağıdaki cümlelerin hangisinde isim görevinde kullanılmıştır?

- A) Burada her şey ince hesaplarla hazırlanmıştı.  
B) Üşüyordu çünkü üstündeki kazak çok inceydi.  
C) İnce kitapları dolabın alt gözüne yerleştirdik.  
D) Senin ince davranışların herkes örneğ olacak.

3. Aşağıdaki cümlelerde altı çizili sözcüklerden hangisi basit isimdir?

- A) Dil, derinliği ölçülemeyen koca bir okyanustur.  
B) Günlük yaşantımızda renklerin önemli bir yeri var.  
C) Köşkün en güzel odası misafirlere ayrıldı.  
D) Çatıyı aktarmak için çok para gerekiyor.

4. Aşağıdaki dizelerde altı çizili sözcüklerden hangisi niteleme sıfatıdır?

- A) Bir yanda akan benim, öbür yanda Sakarya.  
B) Sanki örterdi ağaçlar o derin maviliği.  
C) Giden şanlı akıncı ne gün döner yurduna?  
D) Bazı günler hüzün kaplar benliğimi.

5. Aşağıdakilerin hangisinde zaim yoktur?

- A) Kayalıklarda gördüm seni sisli bir günde.  
B) Bunlar sizin duygunuz, sizin düşüncenizdir.  
C) Kimselere zararımız yok bizim.  
D) Hazırlık da bir büyük savaş bu yolculukta.

6. Aşağıdaki cümlelerin hangisinin yüklemi, işteş bir fiil değildir?

- A) Uzun yıllar sonra onunla görüştüm.  
B) Koridorda uzman yardımcısıyla çarpıştım.  
C) Bu olaydan sonra komşusuyla barıştı.  
D) İşten ayrılınca mülayim bir adama dönüştü.

7. Modernleşmenin Batı dillerini bilmekle veya bu dillerden herhangi birini bilmeden yabancı sözcükleri sıkça kullanmakla gerçekleşeceğine inananlar var. Bu anlayıştan uzaklaşmak gerekir. Çünkü gerçek anlamda modernleşme ilim, teknik ve fen alanlarındaki yenilik ve gelişmelerle sağlanabilir. Bugün modern olarak değerlendirilen ülkelerin tarihine bakarsak bunu açıkça görebiliriz.

**Bu parçada ağır basan anlatım türü aşağıdakilerden hangisidir?**

- A) Öyküleyici B) Tartışmacı  
C) Betimleyici D) Mizahi

8. - Yazılarınızda kolay ve rahat olmaya dikkat eder misiniz?  
- Gazete yazılarında evet... Kitaplarımda okuyucuyu yormamak endişesinden uzağım. Çapraşığı, en küçük unsurunu feda etmeden sade bir şekilde ifade etmeye daima çalışırım. Fakat bunun mümkün olmadığı yerlerde, sadeliğe hiçbir değeri feda etmem.  
- Bugün geçinmeniz yazı yoluyla mıdır?  
- 19 yaşımdan beri yalnız yazı yoluyla.

**Bu parçada aşağıdaki anlatım türlerinden hangisi kullanılmıştır?**

- A) Söyleşmeye bağlı  
B) Mizahi  
C) Destansı  
D) Coşku ve heyecana bağlı

9. Aşağıdaki cümlelerin hangisinde zaman zarfı yoktur?

- A) Üniversiteyi kazanmak için çok çalışmalısınız.  
B) Dün, seni genç bir adam sormuştu.  
C) Babam, iki gün sonra beni aradı ve yanına çağırdı.  
D) Başkan içeri girince hepimiz ayağa kalktık.

10. MADDE 4: Anayasanın 1'inci maddesindeki devletin şeklinin cumhuriyet olduğu hakkındaki hüküm ile 2'nci maddesindeki cumhuriyetin nitelikleri ve 3'üncü maddesi hükümleri değiştirilemez ve değiştirilmesi teklif edilemez. MADDE 7: Yasama yetkisi Türk milleti adına Türkiye Büyük Millet Meclisindedir. Bu yetki devredilemez.

**Bu parçanın anlatım türü aşağıdakilerden hangisidir?**

- A) Mizahi Anlatım  
B) Emredici Anlatım  
C) Öyküleyici Anlatım  
D) Destansı Anlatım

11. Hasan lokantadan çıktığı zaman garın saati dokuzu gösteriyordu. Güneş yükselmiş, Sirkeci Meydanı'nı tek gölge bırakmadan boydan boya kaplamıştı. İnsanlar itişip kakışmaya başlamışlardı. Meydan tramvaylar, otomobiller, otobüslerle dolmuştu. Dükkanların kepenkleri açılmış, vitrinlerin gecedan kalma ışıkları söndürülmüştü. Hasan aceleci adımlarla iş yerine yöneldi ve kalabalığın arasına karıştı bir anda.

**Bu parçanın anlatımıyla ilgili olarak aşağıdakilerden hangisi söylenemez?**

- A) Öyküleyici anlatım kullanılmıştır.  
B) Betimlemeye başvurulmuştur.  
C) Üçüncü kişi anlatımı söz konusudur.  
D) Benzetmelere yer verilmiştir.

## 1. OTURUM

12. Aşağıdakilerden hangisinde ikileme diğerlerinden farklı bir türde kullanılmıştır?

- A) Akşamları onunla tatlı tatlı sohbet ederdik.
- B) Burada acı tatlı anılarımız var seninle.
- C) Renk renk çiçeklerle süslenmişti bahçeler.
- D) Kısa kısa bakışlarla bizi süzüyordu.

13. (I) Evden çıkınca Arif Usta'nın lokantasına uğradım. (II) Ona, iki gün önce çektiği ziyafet için teşekkür edecektim. (III) Her zamanki konukseverliğiyle beni bırakmayıp bana şahane bir masa hazırladı. (IV) Yemek yerken güzel sohbetiyle de bana eşlik etti.

**Bu parçada numaralanmış cümlelerin hangisinde farklı türde bir eylemsi kullanılmıştır?**

- A) I. B) II. C) III. D) IV.

14. Aşağıdaki cümlelerin hangisinde soyut isim kullanılmamıştır?

- A) Büyük bir sevinçle babasının boynuna sarıldı.
- B) Korkularınızı yenmenin en iyi yolu onların üstüne gitmektir.
- C) Gözlerimi kamaştıran bir ışık halkası vardı gökyüzünde.
- D) Hayattan zevk almak için karamsarlıktan kurtulmanız gerekir.

15. Keklik gibi taştan taş sekerek Gerdan açıp gelişini sevdiğim Sağa sola taksim etmiş örgüsün Onar onar bölüşünü sevdiğim

**Bu dizelerde lirik anlatımın aşağıdaki özelliklerinden hangisi görülmez?**

- A) Duygular ön plandadır.
- B) "ben" ve "biz" zamirleri çokça kullanılır.
- C) Dil heyecana bağlı işlevde kullanılır.
- D) Sözcükler genellikle mecaz ve yan anlamlarıyla kullanılır.

16. Vefasız Aslı'ya yol gösteren bu, Kerem'in sazına cevap veren bu, Kuruyan gözlere yaş gönderen bu...

Sızmadı toprağa çoban çeşmesi.

**Bu dörtlükte aşağıdakilerden hangisi yoktur?**

- A) Özel isim
- B) İşaret sıfatı
- C) Türemiş sıfat
- D) Çoğul isim

17. Arkadaş, yurduma alçakları uğratma sakın;  
Siper et gövdeni, dursun bu hayasızca akın.

Doğacaktır sana vadettiği günler Hakk'ın,  
Kim bilir, belki yarın, belki yarından da yakın.

**Bu dörtlükte aşağıdaki anlatım türlerinden hangisi kullanılmıştır?**

- A) Mizahi anlatım
- B) Kanıtlayıcı anlatım
- C) Fantastik anlatım
- D) Destansı anlatım

18. Aşağıdaki cümlelerin hangisinde fiilimsi yoktur?

- A) Kırılacak eşyaları kutuya özenle yerleştirdi.
- B) Çocuk parkta koşarken yere düştü.
- C) Bu şehirdeki hava kirliliği insanı bunaltıyor.
- D) Bu kitabı arkadaşlarıma vermek istiyorum.

19. Büyük Ağrı Dağı, ordusunu toplayıp çok uzun süren bir savaşa gitmiş. Savaş bu, ne zaman biteceği belli olur mu? Büyük Ağrı Dağı, ordusuyla savaşıp uğraşırken Kafdağı'nın sağlığı bozulmuş. Çok yaşlı olduğu için dermanının tükendiğini anlayarak çevresindeki dağ oğullarına, dağ torunlarına durumunun iyi olmadığını bildirmiş. Gün gelmiş, Kafdağı ölmüş.

**Bu parçada aşağıdaki anlatım türlerinden hangisi kullanılmıştır?**

- A) Gelecekte söz eden anlatım
- B) Düşsel anlatım
- C) Söyleşmeye bağlı anlatım
- D) Öğretici anlatım

20. Dışarıda yağmur yağadursun  
Ve yağmur gibi sonsuz olan  
Gözyaşların ve sayıklaman  
Camlarda halka halka dursun

**Bu dörtlükte aşağıdaki sözcük türlerinden hangisi yoktur?**

- A) Ünlem
- B) Bağlaç
- C) Edat
- D) Fiil

### (405) DİL VE ANLATIM – 5

1. Aşağıdaki eşleştirmelerin hangisinde yanlışlık yapılmıştır?

- A) Makale – Gazete çevresinde gelişen öğretici metin
- B) Günlük – Kişisel hayatı konu alan öğretici metin
- C) Hikâye – Anlatmaya bağlı edebî metin
- D) Biyografi – Göstermeye bağlı edebî metin

2. Aşağıdakilerden hangisi sanat metinlerinin özelliklerinden biri değildir?

- A) Kişi, her okuduğunda farklı yorumlar çıkarabilir.
- B) Amaç duyguyu hissettirmektir.
- C) Dil, göndergesel işlevde kullanılır.
- D) Yazar, okuyucuyu kendi kurmaca dünyasına çekmek ister.

3. - - - ; çevresi izleyicilerle çevrili bir alan içinde oynanan, yazılı metne dayanmayan, içinde müzik, raks ve şarkı da bulunan doğaçlama bir oyundur. Oyunun oynandığı alana palanga denir.

**Bu parçada boş bırakılan yere aşağıdakilerden hangisi getirilmelidir?**

- A) Orta oyunu
- B) Komedi
- C) Karagöz
- D) Meddah

4. Gurbetin cemresi düştü içime  
Karardı yine gökler.  
Yalnızım bu şehirde yapayalnızım...  
Ne ben kimseyi beklerim.  
Ne kimse beni bekler.

**Bu dizelerle ilgili aşağıdakilerden hangisi söylenemez?**

- A) Dil, şiirsel işlevde kullanılmıştır.
- B) Öznellik söz konusudur.
- C) Coşku ve heyecanı dile getiren edebî metindir.
- D) Bütün sözcükler gerçek anlamıyla kullanılmıştır.

## 1. OTURUM

5. Aşağıdakilerden hangisi öğretici bir metinden alınmış olamaz?

- A) Millî Müze, dinazorları ile ilgi çekiyor. Gobi Çölü'nün, tarih öncesinde yüzlerce çeşit dev yaratığın ve dinazorun ana yurdu olduğu biliniyor.  
B) Adalet, insan olma yolculuğumuzda sahip olmamız gereken bir erdemdir. Dilimizdeki "adalet" sözcüğü Arapça "ayn, dal, lam" ile yazılan "adl" kökünden gelir.  
C) Yazar, yalnız görüneni, de-neyseli, hesaplanabilirini değil; bilinmezi, geleceği, olabileceği de vermeyi amaçlar. Şimdinin ötelere uzanan bir sezgisi, dili, kavrayışı vardır yazarın.  
D) Aşağısı baş döndürecek kadar derin bir uçurumdur. Yeni bitmiş bir kâbus gecesinden kalma korkunç rüyaları andıran parça parça sisler, birbirine karışmış camlarla kayaları örtüyordu.

6. Fıkra türü, Türk edebiyatına - - - - Dönemi'nde Batı'dan geçmiştir.

**Bu cümlede boş bırakılan yere aşağıdakilerden hangisi getirilmelidir?**

- A) Servetifünun B) Tanzimat  
C) Fecriati D) Cumhuriyet

7. Kuzeyinde Küre ve güneyinde Iğaz Dağları arasında kalmış yalnız, içe dönük ama keşfettikçe güzelliklerini sunan bir Anadolu kenti Kastamonu. 1910'lardan kalma tarihî Belediye Konağı'nın merdivenlerinden iner inmez arkamı dönüp binaya yeniden bakıyorum. Ne kadar oturaklı ve ağırbaşlı. Dört metre tavan, dengeli duruş, çarpıcı süslemeler... Demek ki bir zamanlar, bugün artık Anadolu'nun birçok kentinde nostalji olarak kalmış ahşap evler gibi devlet binaları da dikkat çekiciymiş.

**Bu parçanın edebî türünün eski edebiyattaki karşılığı aşağıdakilerden hangisidir?**

- A) Seyahatname B) Tercümeihâl  
C) Musahabe D) Ruzname

8. Aşağıdakilerden hangisi makale yazarlarımızdan biri değildir?

- A) İbrahim Şinasi  
B) Mehmet Akif Ersoy  
C) Namık Kemal  
D) Peyami Safa

9. I. Bir kimsenin kendi hayat hikâyesini anlattığı yazıdır.  
II. Anlatımda nesnellik ağır basar.  
III. Daha çok tartışmacı ve betimleyici anlatım kullanılır.  
IV. Anlatımda birinci tekil şahıs kullanılır.

**Numaralanmış cümlelerin hangilerinde otobiyografi ile ilgili yanlış bir bilgi vardır?**

- A) I ve II. B) I ve III.  
C) II ve III. D) III ve IV.

10. Aşağıdaki altı çizili sözcüklerin hangisi eş sesli değildir?

- A) İçeri gel de bir bardak çay içelim.  
B) Al bir yazma bağlamış başına.  
C) Her yaz Trabzon'a giderim.  
D) Bu iş hepimizin canını sıkı-mıştı.

11. Aşağıdakilerden hangisi göstermeye bağlı türlerden biri değildir?

- A) Köy seyirlik oyunları  
B) Trajedi  
C) Masal  
D) Orta oyunu

12. - - - - YAYINLARI  
Yayınlarınız arasında yer alan ilkokul 4. sınıf matematik kitabından 150 adet, aşağıda belirttiğim adrese ödemeli olarak göndermenizi rica ederim.

5 Eylül 2011  
Adı- Soyadı  
İmza

Adres

**Örneği verilen mektup türü aşağıdakilerden hangisidir?**

- A) Edebî mektup  
B) Resmî mektup  
C) İş mektubu  
D) Özel mektup

13. Aşağıdaki türlerden hangisinin gazetesinin gelişimiyle doğrudan bir ilgisi yoktur?

- A) Makale  
B) Fıkra  
C) Haber yazısı  
D) Mektup

14. Yazılarının içten ve yoğun bir anlatımı vardır, âdeta kendi kendimle konuşurum satırlarda. Konu bakımından kendimi sınırlamam. Yazılarımda herhangi bir ispatlama kaygısı olmadığını okuyanlar hemen görecektir. Amacım eğitmek, öğretmek değil, düşündürmektir.

**Yazılarını bu şekilde nitelendiren bir yazar hangi türde yazmaktadır?**

- A) Makale B) Deneme  
C) Eleştiri D) Röportaj

15. I. Sürmanşet: Şişirme haber  
II. Tekzip: Yalanlama  
III. Muhabir: Basın ve yayın organlarına haber toplayan, bildiren veya yazan kimse  
IV. Asparağas: Gazetelerin birinci sayfasındaki logonun üzerinde kullanılan başlık

**Numaralanmış gazetecilik terimlerinden hangileri yanlış açıklanmıştır?**

- A) I ve II. B) I ve IV.  
C) II ve III. D) III ve IV.

16. Aşağıdaki cümlelerin hangisinde bilgi yanlış vardır?

- A) Şuara tezkireleri, siyer, vakayiname, gazavatname gibi eserler anı türüne özgü nitelikler taşır.  
B) Batılı anlamda anı, Tanzimat ile beraber edebiyatımıza girmiştir.  
C) Anı; makale, sohbet, deneme türleri gibi gazete çevresinde gelişir.  
D) Anı yazarları yaşanmış olayları konu aldığı için anılar tarihe ışık tutar.

## 1. OTURUM

17. Aşağıdakilerden hangisi sohbet türünün özelliklerinden biri değildir?

- A) Savunulan düşünceleri kanıtla-  
ma zorunluluğu vardır.
- B) Anlatım samimi, içten ve anlaşılır olmalıdır.
- C) Atasözü ve deyimlerden, nükteli sözlerden yararlanır.
- D) Bir kimse ile konuşur gibi yazılır.

18. - Gazete ve dergilerde yayımlanır.  
- Güncel, siyasal, toplumsal sorunlarla ilgili yazılardır.  
- Okuyanı ikna etme amacı yoktur.  
- Kişisel düşüncelere yer verilir.

**Özellikleri verilen yazı türü aşağıdakilerden hangisidir?**

- A) Fıkra
- B) Makale
- C) Eleştiri
- D) Biyografi

19. - - - - yazarı ele aldığı konuyu ispatlamak, en ince ayrıntısına kadar araştırmak ve incelemek zorundadır. İleri sürülen görüş ve düşüncelerin sağlam kaynaklara dayandırılma zorunluluğu vardır.

**Bu parçada boş bırakılan yere aşağıdakilerden hangisi getirilmelidir?**

- A) Sohbet
- B) Makale
- C) Deneme
- D) Fıkra

20. Aşağıdakilerden hangisi eleştiri yazarında bulunması gereken özelliklerden biri değildir?

- A) Geçmişin ve çağının sanat olaylarını iyi bilmesi
- B) Objektiflikten uzak olması
- C) Yıkıcı değil yapıcı olması
- D) Geniş bir bilgi ve kültür birikimine sahip olması

### (406) DİL VE ANLATIM – 6

1. Bilimsel toplantılarda ilim ve fen insanların yaptıkları toplantılara - - - - denir.

**Bu cümlede boş bırakılan yere aşağıdakilerden hangisi getirilmelidir?**

- A) dinsel söylev
- B) akademik söylev
- C) siyasal söylev
- D) hukuksal söylev

2. Röportajlarda aşağıdaki anlatım türlerinden hangisinin kullanımını diğerlerinden daha azdır?

- A) Öğretici anlatım
- B) Açıklayıcı anlatım
- C) Betimleyici anlatım
- D) Emredici anlatım

3. Cam, eskiden beri ticaretin geniş insan kitlelerinden esirgediği parlıtıyı onlara verendir. Tarihin süsüdür cam. Tarihçilerin erken dönem diye niteledikleri zaman kesitinde cam; doğada zor bulunan yeşim, firuze, zümrüt, kehribar gibi taşlara alternatif olarak üretilmiştir. Antik camların çoğunlukla şeffaf değil, renkli olmasının hatta gereğinden fazla parlak renklerde üretilmesinin nedeni budur.

**Bu metnin türü aşağıdakilerden hangisidir?**

- A) Mektup
- B) Mülakat
- C) Söylev
- D) Röportaj

4. Aşağıdaki türlerin hangisinde özellikle dilin alıcıyı harekete geçirme işlevi kullanılır?

- A) Söylev
- B) Makale
- C) Röportaj
- D) Deneme

5. Ünlü bir ressamı konu alan röportajın türü aşağıdakilerden hangisidir?

- A) Bir yeri konu alan
- B) Bir eşyayı konu alan
- C) Bir insanı konu alan
- D) Bir inancı konu alan

6. Aşağıdakilerden hangisi söylevcinin dikkat etmesi gereken kurallardan biri değildir?

- A) Konuşmasında yersiz ve abartılı vurgulardan kaçınmalıdır.
- B) Kelimeleri yerli yerinde kullanılmalıdır.
- C) Ele aldığı konuyu bütün yönleriyle bilmelidir.
- D) Konuşurken sesini aşırı yükseltmelidir.

7. Aşağıdakilerden hangisi röportaj türünde yazılmış bir eser değildir?

- A) Şair Evlenmesi (Şinasi)
- B) Edebiyatçılarımız Konuşuyor (Yaşar Nabi Nayır)
- C) Çukurova Yana Yana (Yaşar Kemal)
- D) Telsiz Duvaksız Anadolu (Necmi Onur)

8. Aşağıdakilerden hangisi "söylev" in diğer adıdır?

- A) Görüşme
- B) Röportaj
- C) Nutuk
- D) Mülakat

9. Mülakat ile - - - - birbirine karıştırılır. Oysa - - - - hazırlayan kişi gördükleri ve duyduklarıyla yetinmez.

**Bu parçada boş bırakılan yerlere aşağıdakilerden hangisi getirilmelidir?**

- A) tiyatro
- B) röportaj
- C) söylev
- D) sohbet

10. Aşağıdakilerin hangisinde röportaj türü ile ilgili bir bilgi yanlış vardır?

- A) Okuyucunun ilgisini çekecek ve onları düşündürecek biçimde düzenlenir.
- B) Amacı, konuyu çarpıtmadan belgesel olarak okuyucuya sunmaktır.
- C) Bir topluluğa belli bir fikri aşılama için yapılan etkili ve inandırıcı konuşmalardır.
- D) Tek bir yazı olabileceği gibi aynı konuda yazı dizisi olarak da hazırlanabilir.

11. Efendiler! Tarih, milletlerin yükselme ve düşme sebeplerini ararken birçok siyasal, askerî, sosyal neden bulmakta ve saymaktadır. Şüphe yok, bütün bu nedenler sosyal olaylarda etkilidir. Fakat bir milletin doğrudan doğruya hayatıyla, yükselmesiyle, düşmesiyle ilgili ve ilişkili olan milletin ekonomisidir.

**Bu metnin türü aşağıdakilerden hangisidir?**

- A) Mülakat
- B) Söylev
- C) Röportaj
- D) Fıkra

## 1. OTURUM

12. Röportaj, gazete çevresinde gelişen öğretici metinlerden - - - - özelliklerini taşır. Çünkü röportajın da dayandığı sağlam bir düşünce ve tez vardır.

**Bu parçada boş bırakılan yere aşağıdakilerden hangisi getirilmelidir?**

- A) gezi yazısının  
B) makalenin  
C) biyografinin  
D) fıkranın

13. I. Röportaj araştırma  
II. Söylev hitap sözleri  
III. Mülakat soru-cevap  
IV. Hatip eleştirmen

**Numaralanmış terimlerden hangisi karşısındakiyle ilişkilendirilemez?**

- A) I. B) II. C) III. D) IV.

14. Söylev türü Türk edebiyatında - - - - sonra görülmeye başlanmıştır.

**Bu cümlede boş bırakılan yere aşağıdakilerden hangisi getirilmelidir?**

- A) Tanzimat Dönemi'nden  
B) II. Meşrutiyet'ten  
C) Cumhuriyet Dönemi'nden  
D) Lale Devri'nden

15. Yazarın bir konu, eşya ya da yerle ilgili yaptığı incelemeleri değişik boyutlarıyla ele alıp kendi görüşlerini de katarak yazdığı gazete ve dergi yazılarına - - - - denir.

**Bu cümlede boş bırakılan yere aşağıdakilerden hangisi getirilmelidir?**

- A) röportaj B) söylev  
C) mülakat D) deneme

16. Mülakatla ilgili aşağıdakilerden hangisi söylenemez?

- A) Sorular herkesin anlayabileceği şekilde açık ve net olmalıdır.  
B) Dil, göndergesel işlevde ve alıcıyı harekete geçirme işlevinde kullanılır.  
C) Mülakat yapılacak kişiden randevu alınmalıdır.  
D) Sorulara verilen cevaplar değiştirilerek aktarılmalıdır.

17. - Geleneksel sanatlarımızdan yararlanarak sinemada bir açılım sağlamak nasıl bir iştir?  
- Gelenekten iki metot ile yararlanmak mümkün. Birincisi "kes yapıştır metodu". Geleneğin kimi unsurlarını alır, filminde kullanırsın. Örneğin İtri'yle ilgili bir film yapacaksan İtri'nin müziğini kullanırsın. İkinci yöntem, geleneğin bazı yapılarını yorumlayıp onlardan metaforlar üretmektir. İkinci yöntemde, mevzuya derinlemesine hâkim olmaya çalışarak bir tazeleme çabası ortaya koyuyorsunuz.

**Bu metnin türü aşağıdakilerden hangisidir?**

- A) Mülakat B) Söyleşi  
C) Deneme D) Söylev

18. Aşağıdakilerden hangisi söylev çeşitlerinden biri değildir?

- A) Askerî söylev  
B) İktisadi söylev  
C) Coğrafi söylev  
D) Siyasi söylev

19. Aşağıdakilerden hangisi röportaj yazarının dikkat etmesi gereken kurallardan biri değildir?

- A) Kişisel düşüncelerine hiçbir zaman yer vermemesi  
B) Gördükleri ve duyduklarıyla yetinmemesi  
C) Röportajı okuyucunun dikkatini çekecek şekilde hazırlaması  
D) Toplumun ilgilendiren konulara yer vermesi

20. Aşağıdakilerden hangisinin gelişiminde gazete etkili olmamıştır?

- A) Deneme  
B) Söylev  
C) Haber yazısı  
D) Fıkra

### (407) DİL VE ANLATIM – 7

1. Ansızın oyuna başlayan çocukların  
Sesleri kadar canlı ve huylu  
Sevinçleri kadar taze ve acemi  
Bir duruş kuşatacak işte seni  
Gözyaşları da çiçek açar

**Bu dizelerin teması aşağıdakilerden hangisidir?**

- A) Yalnızlık B) Karamsarlık  
C) Umut D) Özlem

2. Aşağıdaki dizelerin hangisinde cinas vardır?

- A) Sessizliktir belki ahşap kanatlı  
Kulluğa acı tuz vuran son atlı  
B) Er isen özünü bin yürüt bin ata  
Söz ana değildir bence ata  
C) Hüzünse hüzün, ah garip yurdum  
Seni kokluyorum, kokluyorum  
D) Bir de tenezzül et bizim köyde yat  
Gel sor soruştur derdimiz kat kat

3. Şiirin en önemli unsurlarından biri de söz sanatlarıdır. Edebî sanatlar, dizelere çağrışım zenginliği ve çok boyutluluk katar.

**Buna göre aşağıdakilerden hangisinin çağrışım yönünden zengin olduğu söylenemez?**

- A) Aylarca gezindim yıkık ve şaşkın,  
Benliğim bir kazan ve aklım kepçe,  
Deliler köyünden bir menzil aşkın,  
Her fikir içimde bir çift kelepçe,  
B) Onsuz gülmeyi unuttur gök-  
ler;  
Şelale; kahrından susar, dökülmez,  
Her bulut bir kaplan şeklinde gezer!  
Ölmez bu yaralı kaplanım, ölmez!..  
C) Evler bir nara benzer,  
Nar tanesi sofalar.  
Akşam, yol gibi gezer;  
Sükûn su gibi dalar.  
D) Geliyor, Boğaziçi'nden doğru,  
Bir iskeleden kalkan vapurun sesi,  
Mavi sular üstünde yine  
Bembeyaz Kız Kulesi



## 1. OTURUM

4. Biliyorum ki her yazarın kendisine has bir üslubu vardır. Ama bazı özellikler üslup olmaktan çıkar ve bir kusura dönüşür. Yazarımız derin anlamlı ve zor bir eser ortaya koymuş. Yalnız bunu yaparken de belli bir ölçüyü yakalamak zorundaydı. Oysa ben onun bu kitabını okurken kendimi trafikte sürekli kırmızı ışığa yakalanmış bir sürücü gibi hissettim. Doğal olarak da aldığım zevk azaldı. Umarım bir sonraki kitabında bunu aşabilir.

**Bu parçaya göre sözü edilen kitabın anlatım yönünden aşağıdaki niteliklerinden hangisi eksiktir?**

- A) Doğallık      B) Tutarlılık  
C) Akıcılık      D) Duruluk

5. Ertesi gün Emma için sıkıntılı bir gün oldu. Her taraf kapkara bir havaya bürünmüş gibi geldi ona; bu hava belirsiz biçimde her şeyin üzerinde dalgalanıyor, keder de genç kadının ruhuna hafif çığlıklarla işliyordu. Emma, kederli bir hüznün, uyuşuk bir umutsuzluk içindeydi. Hiçbir iş başvurusu kabul edilmemişti. Yakında beş parasız kalacaktı.

**Bu parçada hikâyenin aşağıdaki yapı unsurlarından hangisi belirgin biçimde verilmemiştir?**

- A) Yer      B) Kişi  
C) Zaman      D) Olay

6. **Aşağıdakilerden hangisi edebiyatımızın ilk yerli romanıdır?**

- A) Taaşşuk-ı Talat ve Fitnat  
B) İntibah  
C) Hasan Mellaah  
D) Felatun Bey'le Rakım Efendi

7. **Edebiyatımızda yazılan ilk tiyatro eseri aşağıdakilerden hangisidir?**

- A) Gülünç Kibarlar  
B) Venedik Taciri  
C) Atlılar ve Kurbağalar  
D) Şair Evlenmesi

8. **Aşağıdakilerden hangisi halk şiiri nazım biçimlerinden değildir?**

- A) Gazel      B) Semai  
C) Mani      D) Koşma

9. I. Duyguları coşkulu bir dille anlatan şiirdir.  
II. Kır ve çoban yaşayışını dile getirir.  
III. Nazım hâlinde yazılmış oyunlar için kullanılır.

**Numaralanmış bilgilerle aşağıdaki şiir türleri eşleştirildiğinde hangisi dışarıda kalır?**

- A) Dramatik şiir  
B) Lirik şiir  
C) Didaktik şiir  
D) Pastoral şiir

10. **Aşağıdakilerin hangisinde mecazımürsele örnek yoktur?**

- A) Saatlerdir bereket yağıyor topraklara.  
B) Daha çok Yahya Kemal'i okurdu.  
C) Yemekleri her zaman lezzetliydi.  
D) Çayı ocakta unutmuştu.

11. **Aşağıdakilerden hangisi fablın genel özelliklerinden biri değildir?**

- A) Kişileştirme sanatından sıkça yararlanır.  
B) Yer ve zaman genellikle belirsizdir.  
C) Amaç güldürürken eğitmek ve ders vermektir.  
D) Geniş bir kişi kadrosu vardır.

12. **Türk masalları aşağıdaki kültürlerin hangisinden etkilenmiştir?**

- A) Japon      B) Macar  
C) Hint      D) Kore

13. **Aşağıdakilerin hangisinde anlatıcının bakış açısı farklıdır?**

- A) Neler konuştuk? Saatler geçti. Sabahı bekliyorduk. Kimse uyumayı düşünmüyordu.  
B) Orhan yine buna da bir çare buldu. Primo'nun şapkasını yarım saat için bahçenin çaycısına bıraktılar.  
C) Mistik söğüt dallarıyla geldi. Ben en uzununu kendime ayırdım. Çakı ile dalların ucunu keser, oyuncak at yapardım.  
D) Kartımı uzattım. Beni bir bekleme odasına aldı. Uşak beni salona aldığımda hayretim bir kat daha arttı.

14. **Aşağıdakilerden hangisi halk hikâyelerinin genel özelliklerinden değildir?**

- A) Anlatımında gözlemci bakış açısı kullanılır.  
B) Nazım ve nesir iç içedir.  
C) Yöresel tabirlerin yer aldığı yalın bir dil kullanılır.  
D) Dil, şiirsel işleviyle kullanılır.

15. **Aşağıdakilerden hangisi aşk konulu halk hikâyelerindendir?**

- A) Battal Gazi  
B) Köroğlu  
C) Dede Korkut  
D) Arzu ile Kamber

16. **Aşağıdakilerden hangisi sanatsal metinlerin özelliklerinden değildir?**

- A) Kullanılan dile dikkat edilir, üslup kaygısı vardır.  
B) Hayallere ve mecaz anlatımlara yer verilir.  
C) Okuyucuya bilgi vermek amacıyla yazılır.  
D) Gerçekler kurgulanarak anlatılır.

17. Sanatta, bilimde, politikada veya başka alanlarda tanınmış kişilerin yaşamlarını anlatan yazı türüne - - - - denir.

**Bu cümlede boş bırakılan yere aşağıdakilerden hangisi getirilmelidir?**

- A) biyografi      B) hikâye  
C) roman      D) masal

18. I. Aktör: Tiyatro oyunundaki kadın oyuncu.  
II. Jest: Rol gereği yapılan el, kol ve vücut hareketleri.  
III. Perde: Oyunun bölümleri.  
IV. Adaptasyon: Dekora yardımcı olan küçük eşyalar.

**Numaralanmış tiyatro terimlerinden hangileri yanlış açıklanmıştır?**

- A) I ve II.      B) I ve IV.  
C) II ve III.      D) III ve IV.

## 1. OTURUM

19. Aşağıdakilerden hangisi masal türünün özelliklerinden değildir?

- A) Anlatımında genellikle geniş zaman veya öğrenilen geçmiş zaman kipi kullanılır.
- B) Yer ve zaman kavramları belirsizdir.
- C) Zıt durumların temsilcisi olan kişilerin mücadelelerinden söz edilir.
- D) Genellikle manzum şekilde yazılır.

20. Aşağıdakilerden hangisi olay hikâyesinin özelliklerinden değildir?

- A) Belirli kişiler ve bir olay üzerine hikâye kurulur.
- B) Hikâye planına uyulmaz, belli bir sonucu yoktur.
- C) Olay, kişi, mekân ilişkisi okuyucuda gerçeklik duygusu uyandırır.
- D) Olay, zamana göre mantıklı bir sıralama ile verilir.

### (408) DİL VE ANLATIM – 8

1. Aşağıdakilerden hangisi bilimsel yazıların giriş bölümünde dikkat edilmesi gerekenlerden biri değildir?

- A) Makaleye konu olan araştırmada nasıl bir yöntem izlendiği belirtilmelidir.
- B) Seçilen yöntemin seçiliş sebebi ortaya konmalıdır.
- C) Makalede anlatılanların anlaşılmasını sağlayacak tüm bilgiler ayrıntılı bir şekilde verilmelidir.
- D) İşlenen konunun daha önceki yayınlarda nasıl ele alındığı anlatılmalıdır.

2. Aşağıdakilerin hangisinde konferansla ilgili yanlış bir bilgi verilmiştir?

- A) Konferanstaki amaç bir topluluğu bilgilendirmektir.
- B) Konferans her ne kadar söyleve benzese de konu olarak söylevden ayrılır.
- C) Konferans genel olarak bilim, sanat ve ekonomi konularında verilir.
- D) Konferansta dil ağırlıklı olarak alıcıyı harekete geçirme işleviyle kullanılır.

3. Sempozyumda araştırılan sorunun tanıtıldığı ve neden bu konunun ele alındığının belirtildiği bölüm aşağıdakilerden hangisidir?

- A) Giriş
- B) Deney
- C) Çözüm
- D) Bulgular

4. Edebiyat Öğretmeni Aysel Hanım bir edebî türle ilgili şu bilgileri vermiştir:

- Radyo ve televizyonda düzenlenen toplantılar bu türe örnektir.
- Bu türde bir yarışma havası yoktur.
- Tartışılan konu geniş halk kitlelerinin ilgi duyduğu bir konudur.

Aysel Öğretmen'in hakkında bilgi verdiği tartışma türü aşağıdakilerden hangisidir?

- A) Sempozyum
- B) Münazara
- C) Forum
- D) Açık oturum

5. DAVET

Değerli Bilim İnsanları,  
Muğla Üniversitesi olarak 22-24 Aralık 2011 tarihleri arasında IV. Dünya Dili Türkçe - - - - üniversitemizde düzenlemekten büyük bir onur duyacağız.

Bu duyuru metninde boş bırakılan yere aşağıdakilerden hangisi getirilmelidir?

- A) Forumu'nu
- B) Sempozyumu'nu
- C) Açık Oturumu'nu
- D) Konferansı'ni

6. Aşağıdakilerden hangisi açık oturumun özelliklerinden değildir?

- A) Konuşmacı sayısının altı kişiyi geçmemesi tercih edilir.
- B) Başkan, dinleyicilere konuyu belirtep konuşmacıları tanıtır.
- C) Sonuç bölümünde bir karara varma amaçlanır.
- D) Konuşmalar herkesin anlayabileceği bir dille yapılır.

7. Aşağıdakilerden hangisi bir münazara konusu olamaz?

- A) Çok gezen mi çok okuyan mı daha çok bilir?
- B) Televizyonun Türk ailesine etkileri nelerdir?
- C) Okumak insanı mutlu kılar mı?
- D) Eğitimde tek tip kıyafet gerekli midir?

8. Aşağıdakilerden hangisi bilimsel yazıların ilgili terimlerden biri değildir?

- A) Kaynakça
- B) Dipnot
- C) Ara cümle
- D) İndeks

9. Bilimsel yazıların makale türünün karşılaştığı aşağıdaki yargılardan hangisi yanlıştır?

- A) Bilimsel yazılar her kesime hitap ederken makale okuyucusunun belli bir birikime sahip olması gerekir.
- B) Bilimsel yazılar makaleye göre daha geniş bir araştırmaya dayanır.
- C) Her iki türde de anlatılanların kanıtlanması gerekmektedir.
- D) İki türde de amaç okuyucuyu bilgilendirmektir.

10. Öğrenme, insanın doğumundan ölümüne kadar devam eden bir süreçtir. Ancak çocukluk ve gençlik süreci, eğitimin yoğun ve etkin olduğu dönemlerdir. Bu dönemlerde verilen eğitim, çocuğa ve gence toplum içinde insanlarla uyumlu yaşama becerisi kazandırmaya, başka bir deyişle yaşama sanatını kazandırmaya yöneliktir.

Bu parça için aşağıdakilerden hangisi söylenemez?

- A) Bilimsel bir metinden alınmıştır.
- B) Dil göndergesel işlevde kullanılmıştır.
- C) Sözcükler daha çok yan ve mecaz anlamıyla kullanılmıştır.
- D) Açıklayıcı anlatımdan yararlanılmıştır.

## 1. OTURUM

11. “Nükleer santraller enerji üretimi-  
minde gerekli midir?” sorusu zıt  
fikirlerle aşağıdaki tartışma tür-  
lerinden hangisinde ele alınır?

- A) Sempozyum
- B) Münazara
- C) Açık oturum
- D) Forum

12. - Her konuşma ayrı bir hazırlıktır.  
- Sunulan bildiriler bir dinleyici  
topluluğu önünde okunur.  
- Konuşmacılar birbirlerine konu  
ile ilgili soru sorabilirler.

**Bu özellikler aşağıdaki tartışma türlerinden hangisine aittir?**

- A) Sempozyum
- B) Forum
- C) Münazara
- D) Konferans

13. Aşağıdakilerden hangisi bilim-  
sel yazıların gruplandırılabil-  
ceği başlıklardan biri değildir?

- A) Bilimsel makaleler
- B) Veri değerlendirme tutanakları
- C) Konferans raporları
- D) Toplantı özetleri

14. Aşağıdakilerden hangisi sözlü  
anlatım türlerinden biri değil-  
dir?

- A) Konferans
- B) Sempozyum
- C) Forum
- D) Brifing

15. Aşağıdakilerden hangisi bilim-  
sel yazı örneğidir?

- A) Mehmet Akif Ersoy’un “Seyfi  
Baba” adlı manzumesi
- B) Mehmet Kaplan’ın dille ilgili bir  
makalesi
- C) Halide Edip Adivar’ın “Sinekli  
Bakkal” adlı romanı
- D) Saif Faik Abasıyanık’ın  
“Sarnıç” adlı öyküsü

16. Aşağıdakilerden hangisi sözlü  
anlatım türlerinden biri değildir?

- A) Açık oturum
- B) Sempozyum
- C) Forum
- D) Söyleşi

17. Yazar, düşünür ve sanatçıların  
veya kendi alanında uzman kişi-  
lerin bir konuyu açıklamak, tanı-  
mak, öğretmek amacıyla yaptıkları  
konuşmalara - - - - denir.

**Bu cümlede boş bırakılan yere  
aşağıdakilerden hangisi getiril-  
melidir?**

- A) münazara
- B) forum
- C) konferans
- D) açık oturum

18. Aşağıdakilerden hangisi mü-  
nazaranın özelliklerinden biri  
değildir?

- A) Genellikle üçer ya da dörder  
kişilik iki grup kurulur.
- B) Münazara yapacak kişileri de-  
ğerlendirecek bir jüri seçilir.
- C) Münazara başkanı fikirleriyle  
tartışmacıları yönlendirir.
- D) Karşı fikirlere saygı duyma ve  
güzel konuşma alışkanlığı ka-  
zandırır.

19. Bir kitabın veya derginin kişi,  
konu, yer adı vb. bakımından için-  
dekileri yer numarasıyla belirten  
ve eserin arkasında yer alan alfa-  
betik listeye - - - - denir.

**Bu cümlede boş bırakılan yere  
aşağıdakilerden hangisi getiril-  
melidir?**

- A) dipnot
- B) indeks
- C) kaynakça
- D) dokümantasyon

20. Forum türüyle ilgili aşağıdaki  
bilgilerden hangisi yanlıştır?

- A) Bütün halkı kapsayan geniş bir  
toplantı olarak uygulanır.
- B) Yönetimi güç bir toplantıdır.
- C) Amaç karara varmak değil,  
konuyu değişik anlayışlarla or-  
taya koymaktır.
- D) Dinleyicilerin etkin olarak katılı-  
mı esastır.

### (413) TÜRK EDEBİYATI – 3

1. - - - - , bir ulusun yüzyıllarca  
meydana getirdiği edebî eserleri  
inceleyerek geçirdiği dönemleri  
kronolojik bir sıra içinde inceleyen  
bilim dalıdır.

**Bu cümlede boş bırakılan yere  
aşağıdakilerin hangisi getiril-  
melidir?**

- A) Bilim tarihi
- B) Felsefe tarihi
- C) Sanat tarihi
- D) Edebiyat tarihi

2. Aşağıdakilerden hangisi koşuk  
nazım biçiminin özelliklerinden  
değildir?

- A) Sanatsız ve yalın bir dil kulla-  
nılmıştır.
- B) Nazım birimi dördüktür.
- C) Aruz ölçüsü ile söylenir.
- D) Aşk, tabiat konuları işlenir.

3. Orhun Abideleri dil ve üslup  
açısından aşağıdaki türlerin  
hangisine örnektir?

- A) Roman
- B) Münazara
- C) Söylev
- D) Röportaj

4. Aşağıdakilerden hangisi  
İslamiyet’ten sonraki Türk des-  
tanlarından biri değildir?

- A) Attila Destanı
- B) Cengiz Han Destanı
- C) Timur Destanı
- D) Köroğlu Destanı

5. Sagu ile ilgili aşağıda verilen  
bilgilerden hangisi yanlıştır?

- A) Hem hece hem aruz ölçüsüyle  
söylenirdi.
- B) Dinî törenlerde sığıtçı denilen  
ağıtçılar tarafından söylenirdi.
- C) Ölen kişinin nitelikleri dile ge-  
tirilirdi.
- D) Kopuz çalınarak söylenirdi.

## 1. OTURUM

6. Türk edebiyatının önemli eserlerinden olan Kalyanamkara ve Papamkara masalı - - - - Dönemi'nde kaleme alınmıştır. Eserin aslı Sanskritçedir. Dinsel masal niteliği taşıyan metinde aslı anlatılmak istenen Budizm'dir.

**Bu parçada boş bırakılan yere aşağıdakilerden hangisi getirilmelidir?**

- A) Göktürkler B) Hunlar  
C) Sakalar D) Uygurlar

7. I. Çin kaynakları dışında yazıtlardan ilk söz eden kaynak Tarih-i Cihangüşa'dır.  
II. Taşların en önemlileri Oğuz Kağan, Bilge Kağan ve Attila adına dikilenlerdir.  
III. Yazıtlar, biçim bakımından makale şeklinde yazılmıştır.  
IV. Bu taşlar Türk edebiyatının ilk yazılı eseridir.

**Yukarıda numaralanmış cümlelerin hangilerinde Göktürk Abideleri ile ilgili yanlış bilgi verilmiştir?**

- A) I. ve II. B) I. ve III.  
C) II. ve III. D) III. ve IV.

8. Destan kahramanının MÖ 4. yüzyılda yaşamış bir Saka hükümdarı olduğu sanılmaktadır. Destanda Oğuz boylarının ve Türkmenlerin kaynağı anlatıldıktan sonra, İskender'in Asya seferinde ordusunun bir gece baskınıyla Türklere yenildiği anlatılmaktadır.

**Bu parçada hakkında bilgi verilen destan aşağıdakilerden hangisidir?**

- A) Türeyiş Destanı  
B) Oğuz Kağan Destanı  
C) Yaradılış Destanı  
D) Şu Destanı

9. Aşağıdaki dönemlerden hangisi İslami Dönem Türk Edebiyatı içinde değerlendirilemez?

- A) Edebiyat-ı Cedide  
B) Klasik Türk edebiyatı  
C) Âşık tarzı halk edebiyatı  
D) Dinî – tasavvufi halk edebiyatı

10. Orhun Yazıtları, Türkiye'de ilk kez Arap harfleriyle - - - - tarafından yayımlanmıştır.

**Bu cümlede boş bırakılan yere aşağıdakilerden hangisi getirilmelidir?**

- A) Hüseyin Namık Orkun  
B) Necib Asım  
C) Talat Tekin  
D) Muharrem Ergin

11. Edebiyat Öğretmeni Hatice Hanım'ın "Türkiye'de ilk defa tarih ve edebiyat tarihi incelemelerinde bilimsel yöntemi ortaya koyan bilim insanı kimdir?" sorusuna öğrencilerden bazıları şu cevapları vermiştir:

Ali: Şemsettin Sami  
Ayşe: Ziya Gökalp  
Mustafa: M. Fuat Köprülü  
Bilge: Ahmet Hamdi Tanpınar

**Bu öğrencilerden hangisi Edebiyat Öğretmeni Hatice Hanım'ın sorusuna doğru cevap vermiştir?**

- A) Ali B) Ayşe  
C) Mustafa D) Bilge

12. I. şiir

Ala gözlerini sevdiğim dilber  
Şu gelip geçtiğin yollar öğünsün  
Kadir Mevlâm seni öğmüş yaratmış  
Kısmeti olduğun kullar öğünsün

### II. şiir

Severiz gördüğümüz âfeti dilber  
diyerek  
Başlarız nâle vü feryâda sitemgar  
diyerek

**Bu iki şiirin karşılaştırmasıyla ilgili aşağıdakilerden hangisi yanlıştır?**

- A) I. şiir halk, II. şiir divan şiiri geleneğiyle kaleme alınmıştır.  
B) Her iki şiir de satirik şiir örneğidir.  
C) I. şiirde dördlük, II. şiirde beyit nazım birimi kullanılmıştır.  
D) İki şiirde de "aşk" teması işlenmiştir.

13. İslamiyet Öncesi Sözlü Edebiyat Dönemi'nde ürünler genellikle dinî törenlerde söylenir, bu ürünlere - - - - adı verilen bir müzik aleti eşlik ederdi.

**Bu cümlede boş bırakılan yere aşağıdakilerden hangisi getirilmelidir?**

- A) bağlama B) kopuz  
C) ud D) gitar

14. - Biş ernek tüz ermes.  
(Beş parmak düz olmaz.)  
- Tegirmende toğmuş sıçğan kök kökreginge korkmas.  
(Değirmende doğmuş sıçan gök gürültüsünden korkmaz.)  
- Aç ne yimes tok ne times.  
(Aç ne yemez, tok ne demez.)

**Bu cümleler İslamiyet Öncesi Dönem'de aşağıdaki kavramlardan hangisiyle karşılanır?**

- A) Sav B) Destan  
C) Koşuk D) Sagu

15. Alp Er Tunga öldü mü?  
Geçici dünya kaldı mı?  
Felek öcünü aldı mı?  
Şimdi yürek yırtılır

**Bu dizeler için aşağıdakilerden hangisi söylenemez?**

- A) İslamiyet Öncesi Dönem ürünlerinden saguya örnektir.  
B) Öğretici yönü ağır basmaktadır.  
C) Sevilen bir kimsenin ölümüne duyulan üzüntüyü ifade etmiştir.  
D) Hece ölçüsü ile dördlük hâlinde oluşturulmuştur.

16. Destanlardaki olayların sözlü gelenek yoluyla ağızdan ağıza, nesilden nesile geçtiği safha aşağıdakilerin hangisidir?

- A) Doğuş safhası  
B) Yayılma safhası  
C) Derleme safhası  
D) Yazıya geçme safhası

## 1. OTURUM

### (414) TÜRK EDEBİYATI – 4

17. - - - -, Batı kültürünün yapı taşlarından. Dünyanın en eski doğal destanlarından. Homeros adlı bir ozan tarafından manzum olarak yazıya geçirilmiştir.

**Bu parçada boş bırakılan yere aşağıdakilerden hangisi getirilmelidir?**

- A) Şehname  
B) Gılgamış  
C) Kurtarılmış Kudüs  
D) İlyada ve Odysseia

18. - Destan 13. yüzyıl Moğol tarihçisi Reşidüddin tarafından yazıya geçirilmiştir.

- Ebü'l Gazi Bahadır Han 17. yüzyılda yazdığı Şecere-i Türkî adlı eserde bu destana yer vermiştir.  
- Destanda Hun birliğinin dağılmasından sonra Altay Dağları tarafına göç eden Göktürklerin zorlu mücadelesi anlatılır.

**Yukarıda hakkında bilgi verilen Türk destanı aşağıdakilerden hangisidir?**

- A) Bozkurt Destanı  
B) Ergenekon Destanı  
C) Manas Destanı  
D) Oğuz Kağan Destanı

19. Orhun Yazıtları, Göktürk İmparatorluğu'nun en parlak döneminin yaşandığı - - - - döneminde dikilmiş yazıtlardır.

**Bu cümlede boş bırakılan yere aşağıdakilerden hangisi getirilmelidir?**

- A) Oğuz Kağan  
B) Attila  
C) Bilge Kağan  
D) Cengiz Han

20. Aşağıdakilerden hangisi Türk destanlarında yer tutan öğelerden biri değildir?

- A) Bozkurt  
B) Işık  
C) Ağaç  
D) Aslan

1. Aşağıdakilerden hangisi Kutadgu Bilig ile ilgili doğru bir bilgi değildir?

- A) İlk öğretici manzumdur.  
B) Aruzla yazılan ilk eserdir.  
C) Türk dilinde yazılmış ilk eserdir.  
D) Karahanlılar Dönemi'nin ilk edebiyat ürünüdür.

2. "Kutadgu Bilig alegorik(sembolik) bir eserdir."

**Aşağıdaki açıklamaların hangisi Kutadgu Bilig'in bu özelliği ile ilgilidir?**

- A) Kutadgu Bilig beyitlerle yazılmış ve her beyit kendi içinde uyaklanmıştır.  
B) Öğretici bir eser olduğu için süslü ve sanatlı bir dille yazılmamıştır.  
C) İyi bir devlet yönetiminin nasıl olması gerektiğini anlatan bir siyasetnamedir.  
D) Eserde Ay Toldı "saadet"i, Ögdilmiş "anlayış"ı temsil eder.

3. Divanü Lügati't Türk ile ilgili aşağıdaki bilgilerden hangisi yanlıştır?

- A) Sözlük ve dil bilgisi kitabıdır.  
B) Eserde Türk boylarını gösteren bir harita yer almaktadır.  
C) Türklere Farsça öğretmek amacıyla kaleme alınmıştır.  
D) Eser Türklerin yaşadığı coğrafyalardaki yirmi yıllık bir araştırmanın sonunda yazılmıştır.

4. "Bilginler Sultanı" olarak anılır. İrk, din ayrımı gözetmeden tüm insanlığı kucaklayarak birliği, hoşgörüyü, iyiliği öğütler. En ünlü eseri "Mesnevi" adlı eseridir. Tasavvuf, Allah, aşk, dünya hakkındaki görüşlerini, Allah'a ulaşmanın yollarını, ayetler, hadisler, şiir ve öykülerle anlatır Mesnevi'sinde. Mesnevi pek çok dile çevrilmiş bir eserdir.

**Bu parçada hakkında bilgi verilen sanatçı aşağıdakilerin hangisidir?**

- A) Mevlâna  
B) Yunus Emre  
C) Sultan Veled  
D) Hacı Bektaşî Veli

5. Aşağıdaki eser- yazar eşleştirmelerinden hangisi yanlıştır?

- A) Leyla vü Mecnun – Fuzuli  
B) Harname – Nabi  
C) Hüsn ü Aşk – Şeyh Galip  
D) Garibname – Âşık Paşa

6. Elmayı bütün dildim  
Çamura düştü, sildim  
Ben yârimin kıymetin  
Gittikten sonra bildim

**Şekil özellikleri bakımından bu dörtlüğün nazım biçimi aşağıdakilerden hangisidir?**

- A) Sagu  
B) Semai  
C) Koşma  
D) Mani

7. Orta oyunu ile ilgili aşağıda verilen bilgilerden hangisi yanlıştır?

- A) Dört bir yanı seyircilerle çevrili bir meydanda oynanır.  
B) Oyun başlangıç, hazırlık ve fasıl olmak üzere üç bölümden oluşur.  
C) Orta oyununda yazılı bir metin yoktur.  
D) Tekerleme ve nüktelerle zenginleştirilir.

8. I. Ölçü ağırlıklı olarak aruzdur.  
II. Genellikle yarım uyak kullanılmıştır.  
III. Nazım birimi beyittir.  
IV. Anlatım içten ve coşkudur.

**Numaralanmış cümlelerde dinî-tasavvufî Türk şiiri ile ilgili verilen bilgilerden hangileri doğru değildir?**

- A) I ve II.  
B) I ve III.  
C) II ve III.  
D) III ve IV.

9. Âşık edebiyatında âşıkların şiirlerinin kaydedildiği defterlere verilen ad aşağıdakilerden hangisidir?

- A) Cönk  
B) Divan  
C) Mecmua  
D) Risale

## 1. OTURUM

10. İrânlılarda Ömer Hayyam, Araplarda Ömer bin Ferid, Türk edebiyatında da Halefî - - - - ustası olarak tanınmışlardır.

**Bu cümlede boş bırakılan yere aşağıdakilerden hangisi getirilmelidir?**

- A) mesnevi B) şarkı  
C) rubai D) gazel

11. - - - -, dinî-tasavvufî Türk edebiyatının kurucusu Hoca Ahmet Yesevî tarafından yazılmış öğretici bir eserdir.

**Bu cümlede boş bırakılan yere aşağıdakilerden hangisi getirilmelidir?**

- A) Divan-ı Hikmet  
B) Muhakemetü'l Lügateyn  
C) Kutadgu Bilig  
D) Atabetü'l Hakayık

12. Aşkın âşıklar öldürür,  
Aşk denizine daldırır,  
Tecelli ile doldurur,  
Bana seni gerek seni.

**Yunus Emre'den alınan bu dörtlükle ilgili aşağıdakilerden hangisi söylenemez?**

- A) Nazım türü ilahidir.  
B) 8'li hece ölçüsüyle yazılmıştır.  
C) Konusuna göre pastoral bir şiirdir.  
D) Uyak düzeni "a-a-a-b" şeklindedir.

13. Aşağıdakilerden hangisi dinî-tasavvufî halk şiiri nazım türlerinden değildir?

- A) Nefes B) İlahi  
C) Devriye D) Koşma

14. - Çoğunlukla üçer ya da dörder dizeli bentlerden oluşur.  
- Her bendin sonunda kavuştak ya da bağlama denen nakarat dizeleri bulunur.  
- Ezgilerine göre bozlak, kayabaşı gibi adlar alır.

**Özellikleri verilen nazım şekli aşağıdakilerden hangisidir?**

- A) Koşma B) Mani  
C) Türkü D) Nefes

15. Aşağıdakilerden hangisi Dede Korkut Hikâyeleri üzerine çalışma yapan araştırmacılardan biri değildir?

- A) Kılıslı Muallim Rifat  
B) Orhan Şaik Gökyay  
C) Muharrem Ergin  
D) Namık Kemal

16. I. 16. yüzyıl divan şairidir. "Şairler Sultanı" adıyla anılmıştır. Şiirlerini söz ve anlam oyunlarıyla süslemiştir.  
II. 17. yüzyıl divan şairidir. Öğretici şiirleri ile tanınır. "Hayriyye" adlı öğretici bir mesnevisi vardır.  
III. 18. yüzyıl divan şairidir. Şiirlerinde dönemin İstanbul yaşantısını yansıtmış ve Lale Devri ile özdeşleşmiştir. Şarkı nazım şekliyle tanınan bir şairdir.

**Numaralanmış cümlelerde aşağıdaki şairlerin hangisiyle ilgili bilgi verilmemiştir?**

- A) Şeyhî B) Baki  
C) Nabi D) Nedim

17. Aşağıdakilerin hangisi divan edebiyatının özelliklerinden değildir?

- A) Eserler Arapça ve Farsçanın etkisinde sanatlı bir dille yazılmıştır.  
B) Genellikle tam ve zengin uyak kullanılmıştır.  
C) Gazel, kaside gibi Arap ve Fars edebiyatından alınan nazım şekilleri tercih edilmiştir.  
D) Konu bütünlüğüne önem verilmiş ve şiirlerde konu birliği sağlanmıştır.

18. Dede Korkut Hikâyeleri için aşağıdakilerin hangisi söylenemez?

- A) Oğuz Türklerinin savaşları, sosyal hayatı, gelenek ve görenekleri anlatılır.  
B) 13. yüzyılda Dede Korkut tarafından yazılmıştır.  
C) Çoğunlukla yiğitlik havası eser, kimi kahramanlar olağanüstü özelliklere sahiptir.  
D) Her hikâyenin sonunda Dede Korkut ortaya çıkar, hikâyede anlatılan olayı sonuçlandırır ve görüşlerini söyler.

19. Aşağıdakilerin hangisinde verilen kavram yanlış açıklanmıştır?

- A) Mutasavvıf: Halk şairi, ozan  
B) Hamse: Beş mesnevinin bir araya getirildiği eserler  
C) Mahlas: Şairin şiirde kullandığı adı ya da takma adı  
D) Pendname: Öğüt kitabı

20. "Tezkire"nin tanımı aşağıdakilerin hangisinde doğru yapılmıştır?

- A) Zamanın olaylarının günü gününe yazıldığı defterlerdir.  
B) Bir gezginin gezip gördüğü yerlerin, insanların, yaşayışını, tarihini, medeniyetini anlattığı eserlerdir.  
C) Tasavvufu öğretmek, Allah'a ulaşmanın yollarını göstermek amacıyla yazılan eserlerdir.  
D) Divan edebiyatında çeşitli devirlerde yaşayan şairlerin hayatları ve eserleri hakkında bilgi veren kitaplardır.

### (415) TÜRK EDEBİYATI – 5

1. Aşağıdakilerden hangisi Tanzimat Edebiyatı için söylenemez?

- A) Şiirlerde genel olarak aruz ölçüsü kullanılmıştır.  
B) Divan Edebiyatı nazım biçimleri kullanılmıştır.  
C) Vatan, ulus, aile, gelenek ve görenekle ilgili temalar işlenmiştir.  
D) Beyitlerde konu bütünlüğüne önem verilmemiştir.

2. Aşağıdakilerden hangisi Abdülhak Hamit Tarhan'ın şiirlerinden değildir?

- A) Sahra B) Makber  
C) Bunlar Odur D) Zemzeme

3. "Şair Evlenmesi" adlı eser için aşağıdakilerden hangisi söylenemez?

- A) Batı tekniğiyle yazılan bir perdelik komedidir.  
B) Edebiyatımızda yazılan ilk tiyatro eseridir.  
C) Namık Kemal tarafından yazılmıştır.  
D) Türk toplumuna ait yöresel bir konu işlenmiştir.

## 1. OTURUM

4. Aşağıdaki eser-sanatçı eşleştirmesinden hangisi yanlıştır?

- A) Namık Kemal-Vatan Mersiyesi
- B) Ziya Paşa-Küçük Şeyler
- C) Rezaizade Mahmut Ekrem-Afife Anjelik
- D) Şinasi-Durub-ı Emsal-i Osmaniye

5. I. İntibah  
II. Tercüme-i Telemak  
III. Araba Sevdası

Numaralanmış eserlerle aşağıdaki bilgiler eşleştirildiğinde hangisi dışta kalır?

- A) İlk tarihî roman
- B) İlk çeviri roman
- C) İlk realist roman
- D) İlk edebî roman

6. I. Edebiyatımızda şiir, roman, tiyatro alanlarında eserler verdi.  
II. Batı yanlısı gençlerin Servet-i Fünun dergisi etrafında toplanmasını sağladı.  
III. Edebiyat kurallarını öğreten "Talim-i Edebiyat" adlı eseri hazırladı.

Numaralanmış cümlelerde özellikleri verilen sanatçı aşağıdaki-lerden hangisidir?

- A) Muallim Naci
- B) Ahmet Mithat Efendi
- C) Rezaizade Mahmut Ekrem
- D) Samipaşazade Sezai

7. Aşağıdaki eserlerden hangisi Şinasi'ye ait değildir?

- A) Sahra
- B) Müntehat-ı Eşar
- C) Tercüme-i Manzume
- D) Durub-ı Emsal-i Osmaniye

8. Romantizm akımıyla ilgili aşağıda verilen bilgilerden hangisi yanlıştır?

- A) Realizmin sanatçıyı sıkı kuralcılığına tepki olarak doğmuştur.
- B) Hayaller, duygular ve coşkular önem kazanmıştır.
- C) Akımın öncüsü ünlü Fransız yazar Victor Hugo'dur.
- D) 18. yüzyılın sonunda başlayıp 19. yüzyıl ortalarına kadar sürmüştür.

9. Edebiyatımızda ilk resmî gazete - - - -, ilk yarı resmî gazete ise - - - - kabul edilir.

Bu cümlede boş bırakılan yerlere aşağıdakilerden hangileri sırasıyla getirilmelidir?

- A) Tasvir-i Efkâr – Tercüman-ı Ahval
- B) Ceride-yi Havadis – Tasvir-i Efkâr
- C) Tercüman-ı Ahval – Ceride-yi Havadis
- D) Takvim-i Vakayi – Ceride-yi Havadis

10. Ali Bey hâli vakti yerinde, iyi bir ailenin tek çocuğudur. İyi bir eğitim gören Ali Bey bir gün babasını kaybeder. Üzüntüsünü hafifletmek için sık sık Çamlıca'ya gezintiye çıkar. Bu gezintilerin birinde Mahpeyker adında bir kadınla tanışır ve ona bağlanır.

Bu parçada tanıtılan eser aşağıdakilerden hangisidir?

- A) Karabibik
- B) İntibah
- C) Sergüzeşt
- D) Araba Sevdası

11. - - - -; insan ve toplum yaşantısından doğan olay, duygu, düşünce ve hayallerin söz ve yazı ile güzel ve etkili bir biçimde anlatılması sanatıdır.

Bu cümlede boş bırakılan yere aşağıdakilerden hangisi getirilmelidir?

- A) Edebiyat
- B) Mimari
- C) Güzel sanatlar
- D) Felsefe

12. Aşağıdakilerden hangisi İkinci Dönem Tanzimat Edebiyatı sanatçılarından?

- A) Namık Kemal
- B) Şinasi
- C) Ziya Paşa
- D) Abdülhak Hamit Tarhan

13. Peyami Safa, "Dokuzuncu Hariciye Koğuşu" adlı romanında âdeta bir ruh bilimci tavrı takınmış, roman kahramanlarının ruh dünyalarını ayrıntılı ruhsal tasvirlerle okura betimlemiştir. Bu sayede okurun, kahramanın içinde bulunduğu duygu durumunu, ruh hâllerini anlaması ve kendini kahramanın yerine koyması daha kolay olmuştur.

Bu parça edebiyatın aşağıdaki bilim dallarının hangisiyle ilişkisi olduğunu gösterir?

- A) Sosyoloji
- B) Tarih
- C) Psikoloji
- D) Felsefe

14. I. Eşinin ölümü üzerine yazdığı "Makber" adlı şiirle tanındı.  
II. Eserlerinde toplumsal konulara değindi.  
III. İlk çeviri roman "Telemak"ı Türkçeye çevirdi.  
IV. Şiir, eleştiri, antoloji gibi türlerde eserler verdi.

Numaralanmış cümlelerin hangilerinde Ziya Paşa ile ilgili bilgi yanlışı vardır?

- A) I ve II.
- B) I ve III.
- C) II ve III.
- D) III ve IV.

15. - - - - , edebiyatımızda tutsaklık ve insan ticareti üzerine yazılmış eserlerin en ünlüsüdür. Eserde tutsaklık teması yanında, evlenme işlerinde geleneklere ve göreneklere bağlı kalmanın yanlışı yanları üzerinde durulmaktadır.

Bu parçada kısaca tanıtılan Tanzimat Dönemi romanı aşağıdakilerden hangisidir?

- A) İntibah
- B) Sergüzeşt
- C) Araba Sevdası
- D) Taaşşuk-ı Talat ve Fitnat

16. Aşağıdakilerden hangisi Tanzimat Dönemi'nde edebiyatımıza giren türlerden biri değildir?

- A) Tiyatro
- B) Makale
- C) Şiir
- D) Roman

## 1. OTURUM

17. Aşağıdaki eser-tür eşleştirmelerinden hangisi yanlıştır?

- A) Harabat-yergi
- B) Şair Evlenmesi-tiyatro
- C) Zenzeme-şiiir
- D) İntibah-roman

18. Tanzimat Edebiyatı sanatçıları-  
nın aşağıdaki edebi akımların  
hangisinden etkilendiği söyle-  
nemez?

- A) Klasisizm B) Romantizm
- C) Realizm D) Sürrealizm

19. Türk Edebiyatının sahnelenen  
ilk tiyatro eseri aşağıdakilerden  
hangisidir?

- A) Şair Evlenmesi
- B) Vatan yahut Silistre
- C) Macera-yı Aşk
- D) Afife Anjelik

20. Hikâye ve roman türünün ge-  
lişmesine katkı sağlamıştır.  
Gerçek yaşamda karşılaşılabile-  
ceğimiz olayları ele alan sanatçı  
"Sergüzeşt" adlı romanı edebiya-  
tımıza kazandırmıştır.

**Bu parçada sözü edilen sanatçı  
aşağıdakilerden hangisidir?**

- A) Samipaşazade Sezai
- B) Rezaizade Mahmut Ekrem
- C) Muallim Naci
- D) Abdülhak Hamit Tarhan

### (416) TÜRK EDEBİYATI – 6

1. Servetifünun edebiyatının ge-  
nel özellikleriyle ilgili aşağıda-  
kilerden hangisi söylenemez?

- A) Hikâye ve romanlarda realizm  
akımının etkisinde kalınmıştır.
- B) Fransız edebiyatından sone ve  
terzarima gibi nazım biçimleri  
alınmıştır.
- C) Şiiirde parça güzelliği yerine  
bütün güzelliği ön plana çık-  
mıştır.
- D) Toplumsal konular eleştirel bir  
şekilde ele alınmıştır.

2. Aşağıdakilerden hangisi Halit  
Ziya Uşaklıgil'in eseridir?

- A) Tarih-i Kadim
- B) Eylül
- C) Kırk Yıl
- D) Son Emel

3. Türk edebiyatında yazılan ilk  
psikolojik roman olan bu eserde  
yazar, olaylardan çok kişilerin  
olaylara karşı tepkisi üzerinde  
durmuştur. Kişilerin olaylar karşı-  
sındaki ruhsal durumları, ayrıntı-  
larıyla işlenmiştir.

**Bu parçada sözü edilen eser  
aşağıdakilerden hangisidir?**

- A) Aşk-ı Memnu
- B) Eylül
- C) Kırk Yıl
- D) Son Emel

4. Aşağıdakilerden hangisi fecri-  
ati topluluğunun amaçlarından  
değildir?

- A) Halkı, edebiyat ve sanat konu-  
larında bilgilendirmek
- B) Dilin, edebiyatın ve diğer bilim-  
lerin ilerlemesine katkı sağla-  
mak
- C) Birlik ve dayanışma içerisinde  
toplumu aydınlatmak
- D) Batı'ya ait ürünlerin edebiyatı-  
mıza girmesine izin vermemek

5. Türk şiiirinde sade dil ve heceyi  
ustalıkla kullandı. Konuşma diliyle  
yazı dili arasındaki ayrımı yok  
etmeye çalıştı. "Çamdeviren, Deli  
Ozan" gibi takma isimlerle mizah  
şiiirleri yazdı.

**Bu parçada söz edilen sanatçı  
aşağıdakilerden hangisidir?**

- A) Yakup Kadri Karaosmanoğlu
- B) Orhan Seyfi Orhon
- C) Yusuf Ziya Ortaç
- D) Faruk Nafiz Çamlıbel

6. Yeniye savunan Rezaizade M.  
Ekrem, Servet-i Fünun'u bir ede-  
biyat dergisi hâline getirebilmek  
için Galatasaray Lisesinden öğ-  
rencisi olan - - - - derginin yazı  
işleri müdürlüğüne getirir.

**Bu cümlede boş bırakılan yere  
aşağıdakilerden hangisi getiril-  
melidir?**

- A) Cenap Şahabettin'i
- B) Hüseyin Cahit Yalçın'ı
- C) Tevfik Fikret'i
- D) Ahmet Hikmet Müftüoğlu'nu

7. Servetifünun neslinin en önem-  
li sanatçılarından. "Avrupa  
Mektupları" adlı eserinde gezi  
hatıralarını toplamıştır. Şiiirlerinde  
bireysel konuları tercih eden şai-  
rin tek şiiir kitabı "Tamât"tır.

**Bu parçada kısaca tanıtılan  
sanatçı aşağıdakilerden hangi-  
sidir?**

- A) Tevfik Fikret
- B) Cenap Şahabettin
- C) Süleyman Nazif
- D) Ahmet Hikmet Müftüoğlu

8. Aşağıdaki eserlerden hangisi  
mensur şiiir türünde yazılmıştır?

- A) Siyah İnciler
- B) Haluk'un Defteri
- C) Göl Saatleri
- D) Tarih-i Kadim

9. - "Adalar, Kamer ve Zühre şaiiri"  
olarak şöhret kazandı.  
- Tiyatro ile yakından ilgilenmiştir.  
- Eserlerinden bazıları şunlar-  
dır: Sisler ve Hisler, Kırklar ve  
Denizler, Kösem Sultan...

**Özellikleri verilen sanatçı aşa-  
ğıdakilerden hangisidir?**

- A) Tahsin Nahid
- B) Ahmet Haşim
- C) Emin Bülend
- D) Faik Ali

10. - 19. yüzyılın ikinci yarısında  
romantizme tepki olarak doğ-  
muştur.  
- Eserlerde duygular, okuyucuda  
gerçeklik duygusu oluşturacak  
şekilde anlatılır.  
- Bu akımın dünya edebiya-  
tındaki başlıca temsilcileri  
Balzac, Stendhal, Dostoyevski,  
Çehov'dur.

**Bu özellikler aşağıdaki edebî  
akımlardan hangisine aittir?**

- A) Klasisizm B) Realizm
- C) Sembolizm D) Parnasizm



## 1. OTURUM

11. **Cenap Şahabettin aşağıdaki edebî dönemlerin hangisinde eser vermiştir?**

- A) Tanzimat Edebiyatı
- B) Servetifünun
- C) Fecriati
- D) Milli Edebiyat

12. Sanat yaşamına fecriati topluluğunda başlayan sanatçı, topluluk dağıldıktan sonra Milli Edebiyat Döneminde şiirlerini yazmaya devam etmiştir. Şiirlerinde kapalılığa yer verirken düzyazılarında açıklığa önem vermiştir. "Göl Saatleri, Piyale, Bize Göre" önemli eserlerindedir.

**Bu parçada sözü edilen sanatçı aşağıdakilerden hangisidir?**

- A) Ahmet Haşim
- B) Tahsin Nahit
- C) Emin Bülent
- D) Ali Canip Yöntem

13. **Aşağıdakilerden hangisi Millî Edebiyat Dönemi'nin özelliklerinden değildir?**

- A) Ulusal kaynaklara dayalı bir edebiyat oluşturulmak istenmiştir.
- B) Dilde sadeleşmeye önem verilmiştir.
- C) Şiirler aruz ölçüsüyle yazılmıştır.
- D) Halk edebiyatı nazım biçimleri tercih edilmiştir.

14. **Aşağıdakilerden hangisi Faruk Nafiz Çamlıbel'in roman türündeki eseridir?**

- A) Şarkın Sultanları
- B) Han Duvarları
- C) Çoban Çeşmesi
- D) Yıldız Yağmuru

15. Edebiyatımızın en ünlü hikâyecilerinden olan sanatçı, hikâyelerinde hep olaya önem vermiş; betimleme ve ruh çözümlemelerine hiç yer vermemiştir. "Yeni Lisan" makalesiyle yeni bir dil hareketi başlatmıştır. "Harem, Efruz Bey, Beyaz Lale" eserlerinden bazılarıdır.

**Bu parçada sözü edilen sanatçı aşağıdakilerden hangisidir?**

- A) Halide Edip Adivar
- B) Ömer Seyfettin
- C) Reşat Nuri Güntekin
- D) Yakup Kadri Karaosmanoğlu

16. Servet-i Fünun dergisi 1901 yılında - - - - tarafından yapılan "Edebiyat ve Hukuk" adlı çevirinin yayımlanmasıyla kapatılmış ve Edebiyat-ı Cedide topluluğu dağılmıştır.

**Bu cümlede boş bırakılan yere aşağıdakilerden hangisi getirilmelidir?**

- A) Hüseyin Cahit Yalçın
- B) Cenap Şahabettin
- C) Tevfik Fikret
- D) Mehmet Rauf

17. **Fecriati topluluğu ile ilgili aşağıdakilerden hangisi yanlıştır?**

- A) Edebiyatımızda bildiri yayımlayan ilk topluluk olarak kabul edilir.
- B) Sade, samimi, anlaşılır bir dille eserler verdiler.
- C) Şiirde güzellik kavramını ön plana çıkardılar.
- D) Edebiyatı araç değil amaç olarak gördüler.

18. I. Türkçülük adı verilen akımı düzenleyip bir sisteme bağladı.  
II. Aruz ölçüsünü savundu ve kullandı.  
III. Halk masallarından, Türk mitolojisinden yararlandı.  
IV. Ağır, sanatlı ve süslü bir dille yazma fikrini eserlerinde uyguladı.

**Yukarıda numaralanmış cümlelerin hangilerinde Ziya Gökalp'le ilgili yanlış bilgi verilmiştir?**

- A) I ve II. B) II ve III.
- C) II ve IV. D) III ve IV.

19. Güzel dil Türkçe bize,  
Başka dil gece bize  
İstanbul konuşması  
En saf, en ince bize

**Bu dördümlük ile ilgili aşağıdakilerden hangisi söylenemez?**

- A) Edebî sanatlara, imge ve çağrışımlara sıkça yer verilmiştir.
- B) Didaktik şiirin özelliklerini taşımaktadır.
- C) Millî Edebiyat Dönemi dil anlayışı dile getirilmiştir.
- D) Sade, anlaşılır bir dille yazılmıştır.

20. **Aşağıdaki eser – sanatçı eşleştirmelerinden hangisi yanlıştır?**

- A) Falaka – Ömer Seyfettin
- B) Çalığışu – Reşat Nuri Güntekin
- C) Kiralık Konak – Yakup Kadri Karaosmanoğlu
- D) Handan – Refik Halit Karay

### (417) TÜRK EDEBİYATI – 7

1. Millî Edebiyat Dönemi'nde sade dil ve hece ölçüsünü kullanan sanatçılar, Cumhuriyet Dönemi'nin ilk sanatçı kuşağını oluşturdu. Şiirde Millî Edebiyat akımını en tipik şekilde devam ettiren - - - - oldu. Bunların ortak özelliği halk şiiri geleneğinden yararlanarak yurt güzelliklerini dile getiren duygusal şiirler yazmış olmalarıdır.

**Bu parçada boş bırakılan yere aşağıdakilerden hangisi getirilmelidir?**

- A) Maviciler
- B) Yedi Meşaleciler
- C) Garipçiler
- D) Beş Hececiler

2. Birkaç bahar, bir o kadar kış  
Ömürdür: uzun, kısa.  
Ne ise göreceğin  
Kismet ne kadarsa.

**Bu dizelerde Ziya Osman Saba aşağıdaki konulardan hangisini ele almıştır?**

- A) Aşk B) Kader
- C) Gurbet D) Yaşama sevinci

3. Yorgundum, uzakta güller vardı  
Yeni bir gül oluyordu bir gülün oynamasından  
Bir ay yeni bir ay yapıyordu odaya girdiğini  
Biz Bob'u çok seviyoruz, Bob çünkü umutsuzun biri

**Bu dizeler biçim ve içerik özellikleri dikkate alındığında aşağıdaki şairlerden hangisine aittir?**

- A) Faruk Nafiz Çamlıbel
- B) Necip Fazıl Kısakürek
- C) Edip Cansever
- D) Ziya Gökalp

## 1. OTURUM

4. Aşağıdakilerden hangisi Cumhuriyet Dönemi hikâye ve romanı için doğru bir bilgidir?

- A) Kahramanlar belirli bir zümreden seçilmiştir.
- B) Sade ve anlaşılır bir dil kullanılmıştır.
- C) Teknik yönden oldukça başarısızdır.
- D) Belirli konuların dışına çıkılmamıştır.

5. Aşağıdakilerden hangisi Cumhuriyet Dönemi'nin ilk yıllarındaki en başarılı oyun yazarıdır?

- A) Müsahipzade Celâl
- B) Necip Fazıl Kısakürek
- C) Ahmet Muhip Dıranas
- D) Oktay Rifat Horozcu

6. Aşağıdakilerden hangisi Yedi Meşaleciler adıyla anılan topluluğun üyesidir?

- A) Kenan Hulusi Koray
- B) Yusuf Ziya Ortaç
- C) Orhan Seyfi Orhan
- D) Enis Behiç Koryürek

7. Aşağıdakilerden hangisi İkinci Yeni şairlerinden değildir?

- A) Cemal Süreya
- B) İlhan Berk
- C) Ece Ayhan
- D) Orhan Veli Kanık

8. Anadolu köy seyirlik oyunlarını ve geleneksel halk tiyatrosunu çağdaş sanatsal etkinlikleri besleyecek önemli kaynaklar olarak değerlendiren sanatçı edebiyatımıza Koçyiğit Köroğlu, Bir Pazar Günü gibi önemli eserleri kazandırmıştır.

**Bu parçada sözü edilen sanatçı aşağıdakilerden hangisidir?**

- A) Ahmet Kutsi Tecer
- B) Adalet Ağaoğlu
- C) Sabahattin Kudret Aksal
- D) Cevat Fehmi Başkut

9. Hayata felsefi bir bakışla bakması ve tarih bilincine sahip olması sanatçının oyunlarının ayırt edici özelliğidir. Keşanlı Ali Destanı, Fazilet Eczanesi, Ay Işığında Şamata oyunlarından bazılarıdır.

**Bu parçada sözü edilen sanatçı kimdir?**

- A) Melih Cevdet Anday
- B) Ahmet Kutsi Tecer
- C) Haldun Taner
- D) Necati Cumalı

10. "Elin yargısından bana ne? Ben kendim için çalışıyorum." diyen kimsenin sözüne inanmam. Öyle demesi ne beni kandırır ne de kendini avutur. Yahut ki özünü pek beğenmiş, çevresinde kim ne varsa hepsini yukarıdan süzen yalnızlığı ile böbürlenmiş bir adamdır. Bir çeşit deliliktir onunki; insanın ne idüğünü delillere bakıp da mı anlayacağım?

**Bu parça aşağıdaki edebî türlerden hangisine örnektir?**

- A) Gezi yazısı
- B) Deneme
- C) Hatıra
- D) Günlük

11. Türk hikâye ve romanı 1930'lara kadar Millî Edebiyat etkisinde gelişmiştir.

**Aşağıdakilerden hangisi bu doğrultuda eser veren sanatçılardan değildir?**

- A) Yakup Kadri Karaosmanoğlu
- B) Halide Edip Adıvar
- C) Cevat Şakir Kabaağaçlı
- D) Reşat Nuri Güntekin

12. Cumhuriyet Dönemi'nde mizah edebiyatı güldürürken düşündürmeyi amaçlayan bir mizah anlayışıyla yeni boyutlara ulaştı.

**Aşağıdakilerden hangisi bu alanın gelişmesine katkı sağlayan sanatçılar arasında gösterilemez?**

- A) Aziz Nesin
- B) Nurullah Ataç
- C) Rifat Ilgaz
- D) Muzaffer İzgü

13. Tanpınar; vezin, kafiye ve nazım şekillerini şiirin gerçek bünyesine sonradan eklenen, dışarıdan gelme lüzumsuz bir ilave olarak görmez. Tersine bunları şiirin düzenini oluşturmak, mükemmeliyet dediğimiz kıvılcımları çıkartmak için zekânın madde ile mücadelesini temin eden esaslı bir unsur olarak görür.

**Bu parça hangi makale türüne örnektir?**

- A) Siyasal
- B) İktisadi
- C) Edebî
- D) Askerî

14. Aşağıdaki eserlerden hangisi tür olarak diğerlerinden farklıdır?

- A) Tuna'dan Batı'ya
- B) Bizim Akdeniz
- C) Karalama Defteri
- D) Yurttan Yazılar

15. Toplumdaki hızlı değişimin ekonomik nedenlerden çok ahlaki sonuçları üzerinde durmuştur. Manevi değerlere sahip çıkılması gerektiğini eserlerinde dile getiren sanatçının "Tohum, Bir Adam Yaratmak" önemli eserlerindedir.

**Bu parçada tanıtılan sanatçı aşağıdakilerden hangisidir?**

- A) Sabahattin Kudret Aksal
- B) Asaf Halet Çelebi
- C) Reşat Nuri Güntekin
- D) Necip Fazıl Kısakürek

16. Bilim, sanat, kültür ve başka konularda bilgi vermek, bir düşünceyi ortaya koymak ya da savunmak amacıyla yazılan, yazarın kişisel görüşlerini de yansıttığı gazete ve dergi yazılarına - - - adı verilir.

**Bu cümlede boş bırakılan yere aşağıdakilerden hangisi getirilmelidir?**

- A) Makale
- B) Deneme
- C) Hatıra
- D) Gezi yazısı

17. Aşağıdakilerden hangisi yurt dışı gezi yazılarına örnektir?

- A) Bir Demet Pasifik
- B) Anadolu Notları
- C) Bu Diyar Baştan Başa
- D) Anadolu'da

## 1. OTURUM

18. Aşağıdaki sanatçı - eser eşleştirmelerinden hangisi yanlıştır?

- A) Ahmet Rasim – Muharrir, Şair, Edip
- B) Yahya Kemal Beyatlı – Çocukluğum, Gençliğim, Siyasi ve Edebî Hatıralarım
- C) Hüseyin Cahit Yalçın – Edebî Hatıralar
- D) Yusuf Ziya Ortaç – Eşkal-i Zaman

19. Fıkra türü ile ilgili aşağıda verilen bilgilerden hangisi yanlıştır?

- A) Servet-i Fünun, Genç Kalemler, Dergâh gibi dergiler bu türün gelişmesinde etkili olmuştur.
- B) Yazarın bilimsel gerçekleri ortaya koyma gibi bir iddiası vardır.
- C) Bir konuda okurun dikkatini çekmek ve onu düşünmeye yöneltmek amaçlanır.
- D) Genellikle güncel konuları çeşitli yönlerden inceleyen kısa yazılardır.

20. Cumhuriyet Dönemi'nde köy romanı olarak anılan eserlerin en tanınmış örneklerinden biri - - - tarafından yazılan "Yılanların Öcü"dür.

**Bu cümlede boş bırakılan yere aşağıdakilerden hangisi getirilmelidir?**

- A) Samim Kocagöz
- B) Fakir Baykurt
- C) Orhan Kemal
- D) Yaşar Kemal

### (418) TÜRK EDEBİYATI – 8

1. İçinden tanırım ben o elleri  
Onlar ki zahirde viran olurlar  
Ardıçlı dağları çamlı belleri  
Aşanlar seyrine hayran olurlar

**Aşağıdaki sanatçılardan hangisi bu şiirin şekil ve içeriğine benzer şiirler yazmamıştır?**

- A) Faruk Nafiz Çamlıbel
- B) Ömer Bedrettin Üşaklı
- C) Kemalettin Kamu
- D) Ercüment Behzat Lav

2. Aşağıdakilerin hangisi Garipçilerin şiirdeki ilkelerinden biri değildir?

- A) Günlük hayatı, küçük sorunları, küçük tasa ve sevinçleri işlemek
- B) Ölçü, uyak gibi biçimsel kalıpları kırmak, gelenekten kopmak
- C) Süslü, söz oyunlarına dayalı, imgeli bir dili yeğlemek
- D) Nükteye yer vermek, gülmeden, şaşırtmacadan yararlanmak

3. Hecenin beş şairinden biridir. Anadolu edebiyatının en tanınmış şairidir. Şair, Anadolu'nun acısına, yerinde ve kuvvetli çizgilerle dokunarak halkımızın incelik ve üstünlüklerini gösteren bir edebiyat oluşturmuştur. Anadolu'yu anlattığı şiirlerinde dört yüz yıl önceki saz şairi Karacaoğlan'ın şiirlerinin çıkış noktası olan yurt güzelliklerine ait yerli çizgiler bulunur. Şiirlerindeki uyumu ölçü ve uyak ile sağlamıştır. Aşırı ve özentili abartmalara başvurmadan içten duygularla, anlaşılır bir dille söylemiştir şiirlerini. "Çoban Çeşmesi" en tanınmış şiirlerindedir.

**Bu parçada hakkında bilgi verilen sanatçı aşağıdakilerin hangisidir?**

- A) Faruk Nafiz Çamlıbel
- B) Arif Nihat Asya
- C) Ahmet Kutsi Tecer
- D) Fazıl Hüsnü Dağlarca

4. Dayanmak onlara düştü  
Onların hâline acımak bize  
Seninle daha çok konuşuruz  
Böyle birbirimizden uzak  
Böyle kendi kendimize

Topraktan ekmek  
Pancardan şeker  
Tezgahtan çulâki

Ama gene insanların ekmeği yok  
Ama gene çocuklar kemik veremi

**Bu şiir içerik ve şekil özellikleri bakımından hangi şiir anlayışının özelliklerini taşımaktadır?**

- A) Öz şiir
- B) Serbest nazım ve toplumcu şiir
- C) Millî Edebiyat zevk ve anlayışını sürdüren şiir
- D) İkinci Yeni şiiri

5. Aşağıdakilerden hangisi ikinci Yeni sanatçılarının özelliklerinden değildir?

- A) Dadaizm ve sürrealizm akımlarından etkilenmişlerdir.
- B) Şiirde önceliğin biçimde olduğunu söylemişler, biçimi önemli ve gerekli görmüşlerdir.
- C) Yaşama sevinci, hayata bağlılık, tabiat güzellikleri, aşk gibi temalara sıkça yer vermişlerdir.
- D) Anlaşılabilirlik yerine anlamca kapalılığı, imgeci söyleyişi benimsemişlerdir.

6. Duygu, düşünce ve hayallerin ölçülü, uyaklı dizeler hâlinde örölmüş biçimine - - - - denir.

**Bu cümlede boş bırakılan yere aşağıdakilerden hangisi getirilmelidir?**

- A) nesir
- B) nazım
- C) dize
- D) dörtlük

7. Benim doğduğum köylerde  
Buğday tarlaları yoktu,  
Dağın saçlarını bebek  
Savur biraz!

**Bu dizeler için aşağıdakilerden hangisi söylenebilir?**

- A) Ek hâlinde redif kullanılmıştır.
- B) Yarım kafiye kullanılmıştır.
- C) Doğa sevgisi ele alınmıştır.
- D) Şair buğday tarlaları ile saçlar arasında ilgi kurmuştur.

8. Aşağıdakilerden hangisi Yahya Kemal Beyatlı için söylenemez?

- A) Şiirlerinin çoğunu hece ölçüsüyle yazmıştır.
- B) Klasik divan şiirini Batı şiirindeki bütünlük anlayışı ile ele almıştır.
- C) Aşk, tabiat, deniz, ölüm, sonsuzluk, şiirlerinde işlediği temalar arasındadır.
- D) Şiiri "musikiden başka türlü bir musiki" olarak ele almıştır.

9. Aşağıdaki eser- sanatçı eşleştirmelerinden hangisi yanlıştır?

- A) Karadut - İlhan Berk
- B) Kendi Gök Kubbe - Yahya Kemal Beyatlı
- C) Seyfi Baba - Mehmet Akif Ersoy
- D) Dostlar Beni Hatırlasın - Âşık Veysel

## 1. OTURUM

10. Mısralarda hece sayısı eşitliği ya da hecelerın uzun ya da kısa olması gibi ses özellikleri dikkate alınmayan, belli bir kalıba bağılı kalınmayan şiidir. Kafiye kullanmak ya da şiiri bentlere ayırıp ayırmamak şairin isteğine bağılıdır.

**Yukarıda açıklanan şiir anlayışı aşağıdakilerden hangisidir?**

- A) Öz şiir B) Klasik şiir  
C) Serbest şiir D) Halk şiiri

11. Toplum hayatını anlatmak, mahallî bir edebiyat yapmak, sanatının en önemli özelliğidir. Kuvvetli gözlemleriyle, hayat sahnelerini, olayları, konuşmaları bütün özellikleri ve canlılıklarıyla eserlerine yansıttı. İslam duyarlılığı ile millî kaygıları birleştirdi. "Seyfi Baba" adlı şiiri, konuşma dilinin şiire girdiği ilk örnekler arasında yer aldı. Şiirlerini "Safahat" adlı eserinde topladı.

**Bu parçada hakkında bilgi verilen sanatçı aşağıdakilerden hangisidir?**

- A) Necip Fazıl Kısakürek  
B) Yahya Kemal Beyatlı  
C) Mehmet Akif Ersoy  
D) Sezai Karakoç

12. Roman, kahramanın okuduğu bir kitabın etkisinde kalarak daha önceki değerlerinden uzaklaşmasını ve yolculuğa çıkmasını konu alır. Kahraman bu yolculuk sırasında "kendini bulmaya" çalışır. Yazar, kişinin kendini bulma sürecindeki yozlaşmadan, aydındaki aşağılık duygusuna, yitip giden değerlere kadar çok yönlü bir hesaplaşmaya girişir ve sorunun çözümünün Doğu'ya özgü değerlerle Batı akılcılığının sentezi neticesinde mümkün olacağı yargısına ulaşır. Anlatılanlar belli bir zamanda değil, kahramanın iç dünyasında başlar ve biter. Mekân ise "Viranbağ" ya da "ışıkta bir ülke" sözleriyle nitelenen simgesel bir ülkedir.

**Bu parçada tanıtılan roman aşağıdakilerden hangisidir?**

- A) Cevdet Bey ve Oğulları  
B) Yeni Hayat  
C) Tutunamayanlar  
D) Anayurt Oteli

13. Aşağıdaki yazar – eser eşleştirmelerinin hangisi yanlıştır?

- A) Orhan Pamuk - Kara Kitap  
B) Sait Faik Abasıyanık - Mahalle Kahvesi  
C) Yusuf Atılgan - Aylak Adam  
D) Peyami Safa - Tutunamayanlar

14. Özü biçimden kurtararak serbest şiir olarak nitelenen ve şiirden ölçü, uyak gibi bağları atan bir akımın başlatıcısı oldu. "Kuvayı Milliye Destanı" ve "Memleketimden İnsan Manzaraları" adlı eserlerinde hayatı ve toplumu daha geniş ve gerçekçi açıdan ele aldı.

**Bu parçada hakkında bilgi verilen sanatçı aşağıdakilerden hangisidir?**

- A) Enver Gökçe  
B) Ercüment Behzat Lav  
C) Rifat İlgaz  
D) Nazım Hikmet

15. Cumhuriyet Dönemi Türk edebiyatında önemli bir gelişme de deneme ve eleştiri türlerinde görülmüştür. Önceki dönemlerde bir yan uğraş olarak ele alınan deneme ve eleştiri - - - - gibi Cumhuriyet Dönemi usta yazarlarının bu türleri uğraş edinmeleriyle gelişip yaygınlaşmıştır.

**Bu parçadaki boşluğa aşağıdaki sanatçılardan hangisi getirilemez?**

- A) Nurullah Ataç  
B) Cemil Meriç  
C) Ahmet Kutsi Tecer  
D) Suut Kemal Yetkin

16. Aşağıdaki isimlerden hangileri "saf şiir" anlayışının temsilcileridir?

- A) Cemal Süreya – Edip Cansever  
B) Orhan Veli Kanık – Melih Cevdet Anday  
C) Ahmet Haşim – Yahya Kemal  
D) Attila İlhan – Fazıl Hüsnü Dağlarca

17. Millî Edebiyat zevk ve anlayışını sürdüren şairler Anadolu'ya açılarak eserlerinde yurt güzelliklerini, insanın sıkıntılarını dile getirmişler; halk şiiri duygu ve deyişlerinden yararlanmışlardır.

**Aşağıdaki isimlerden hangisi bu şiir anlayışının içinde yer almaz?**

- A) Asaf Halet Çelebi  
B) Ahmet Kutsi Tecer  
C) Kemalettin Kamu  
D) Faruk Nafiz Çamlıbel

18. Aşağıdaki sanatçılardan hangisi İkinci Yeni topluluğu içinde yer almaz?

- A) Cemal Süreya  
B) Edip Cansever  
C) Kemalettin Kamu  
D) Ece Ayhan

19. • Bu dönemde şairler kendilerini toplumun sesi, sözcüsü olarak gördüler.  
• Toplumcu şiir yeniden değer kazandı.  
• Yalnızlık, sıkıntı ve bunalımın yerini ümit, geleceğe inanç ve hayatın zorluklarına direnme isteği gibi temalar aldı.  
• İsmet Özel ve Atıl Behramoğlu bu anlayışın önemli isimleri arasında yer aldı.

**Bu özellikler aşağıdaki şiir anlayışlarından hangisine aittir?**

- A) İkinci Yeniler  
B) Garipçiler  
C) Garip dışında yeniliği sürdüren şiir  
D) İkinci Yeni sonrası toplumcu şiir

20. Aşağıdaki eserlerden hangisi ait olduğu dönem itibarıyla diğerlerinden farklıdır?

- A) Anayurt Oteli  
B) Sodom ve Gomore  
C) Sinekli Bakkal  
D) Yaban



## 1. OTURUM

14. 40 gram Kalsiyum(Ca) ile 32 gram Kükürt(S) uygun koşullarda birleşerek 72 gram Kalsiyum sülfür (CaS) bileşimini oluşturuyor.

**Buna göre CaS bileşimindeki kütlece  $\frac{Ca}{S}$  oranı aşağıdakilerden hangisidir?**

- A)  $\frac{5}{4}$  B)  $\frac{5}{2}$  C)  $\frac{2}{5}$  D)  $\frac{4}{5}$

15. CO<sub>2</sub> bileşiminde elementlerin kütlece birleşme oranı  $\frac{C}{O} = \frac{3}{8}$  ' dir.

**Buna göre 12 gram C elementi içeren CO<sub>2</sub> bileşimi kaç gramdır?**

- A) 11 B) 22 C) 33 D) 44

16. Aşağıdakilerden hangisi simyacıların çalışmaları içerisinde yer almaz?

- A) Değersiz madenleri altına çevirme  
B) Atom altı tanecikleri bulma  
C) Dokunduğu herşeyi altına dönüştüren felsefe taşını bulma  
D) Sonsuz hayat bahşeden bir su bulma

17. Aşağıdakilerden hangisi simyacıların keşfettiği maddelerden biri değildir?

- A) Plastik B) Göztaşı  
C) Şap D) Kıbrıs taşı

18. I. O<sub>2</sub>  
II. H<sup>+</sup>  
III. H<sub>2</sub>O

**Yukarıda verilen maddelerden hangileri bileşiktir?**

- A) Yalnız II B) Yalnız III  
C) I ve II D) I ve III

19. 1 tane Ca(NO<sub>3</sub>)<sub>2</sub> bileşiminde toplam kaç tane atom bulunur?

- A) 3 B) 5 C) 7 D) 9

20.

Element	Sembol
• Berilyum	B
• Kükürt	K
• Klor	Cl
• Potasyum	P

**Yukarıda verilen elementlerin kaç tanesinin sembolü yanlış gösterilmiştir?**

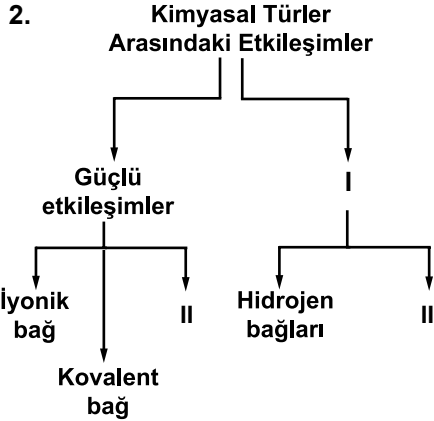
- A) 1 B) 2 C) 3 D) 4

### (432) KİMYA – 2

1. • <sub>6</sub>C  
• <sub>12</sub>Mg  
• <sub>15</sub>P  
• <sub>20</sub>Ca

**Yukarıda verilen elementlerin kaç tanesinin metalik bağ oluşturması beklenir?**

- A) 1 B) 2 C) 3 D) 4



**Yukarıda verilen şemadaki numaralandırılmış yerlere gelmesi gerekenler aşağıdakilerin hangisinde doğru verilmiştir?**

	I	II	III
A)	Zayıf etkileşimler	Metalik bağ	Van der Waals etkileşimleri
B)	Van der Waals etkileşimleri	Metalik bağ	Zayıf etkileşimler
C)	Zayıf etkileşimler	Dipol-dipol etkileşimleri	Van der Waals etkileşimleri
D)	Van der Waals etkileşimleri	Dipol-dipol etkileşimleri	Zayıf etkileşimler

3. I. <sub>3</sub>Li  
II. <sub>6</sub>C  
III. <sub>8</sub>O  
IV. <sub>16</sub>S

**Verilen atomlardan aşağıdaki-lerin hangi ikisi arasında iyonik bağ oluşur?**

- A) II ve III B) I ve III  
C) II ve IV D) III ve IV

4. CH<sub>4</sub>, C<sub>2</sub>H<sub>6</sub>, C<sub>3</sub>H<sub>8</sub> gibi yapısında sadece C ve H elementleri içeren organik bileşikler apolar yapıli moleküllerden oluşur.

**Buna göre aynı şartlar altında bulunan;**

- I. CH<sub>4</sub>  
II. C<sub>2</sub>H<sub>6</sub>  
III. C<sub>3</sub>H<sub>8</sub>

**moleküllerinin kaynama noktalarının karşılaştırılması aşağıdakilerden hangisi gibi olur?**

- A) I > II > III B) I > III > II  
C) II > I > III D) III > II > I

5. I. H<sub>2(g)</sub> + Cl<sub>2(g)</sub> → 2HCl<sub>(g)</sub>  
II. N<sub>2(g)</sub> + 3H<sub>2(g)</sub> → 2NH<sub>3(g)</sub>  
III. 2KClO<sub>3(k)</sub> → 2KCl<sub>(k)</sub> + 3O<sub>2(g)</sub>

**Yukarıdaki tepkimelerden hangileri oluşum (sentez) tepkimesidir?**

- A) Yalnız I B) I ve II  
C) II ve III D) I, II ve III

6. • SO<sub>3</sub> • Mg<sup>2+</sup>  
• OH<sup>-</sup> • CO  
• N • Cu

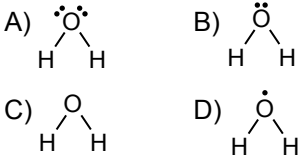
Bazı kimyasal türlerin sembol ve formülleri yukarıda verilmiştir.

**Buna göre bu türlerin atom, molekül ve iyon olarak sınıflandırılması aşağıdakilerin hangisinde doğru verilmiştir?**

	Atom	Molekül	İyon
A)	OH <sup>-</sup> , Mg <sup>2+</sup>	SO <sub>3</sub> , CO	Cu, N
B)	Cu, N	SO <sub>3</sub> , CO	OH <sup>-</sup> , Mg <sup>2+</sup>
C)	SO <sub>3</sub> , CO	OH <sup>-</sup> , Mg <sup>2+</sup>	Cu, N
D)	SO <sub>3</sub> , CO	Cu, N	OH <sup>-</sup> , Mg <sup>2+</sup>

## 1. OTURUM

7.  $H_2O$  molekülünün Lewis formülü aşağıdakilerin hangisinde doğru gösterilmiştir? ( $_1H$ ,  $_8O$ )



8. • Kağıdın yırtılması  
• Camın kırılması  
• Şekerin suda çözünmesi  
• Kömürün yanması

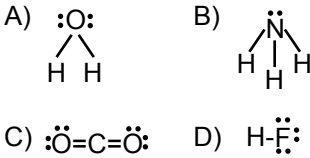
Yukarıda verilen olaylardan kaç tanesi fiziksel değişimdir?

- A) 1 B) 2 C) 3 D) 4

9. Aşağıda verilen taneciklerin hangisinde atomlar arasında iyonik bağ vardır? ( $_1H$ ,  $_8O$ ,  $_9F$ ,  $_{16}S$ ,  $_{19}K$ )

- A)  $H_2$  B)  $SO_2$   
C)  $HF$  D)  $K_2O$

10. Aşağıdaki taneciklerin hangisinde molekül içi bağlar polar kovalent bağ olmasına rağmen molekülün kendisi apolardır?

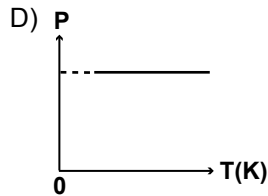
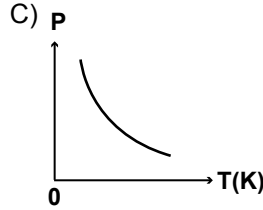
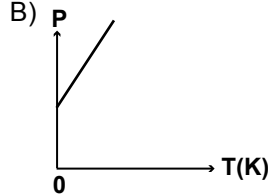
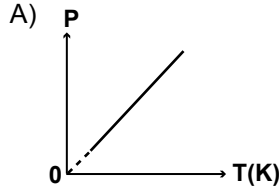


11. • Sıvının kendi molekülleri arasındaki kuvvetler - - I - - kuvvetleridir.  
• Bir sıvının temasta olduğu yüzey ile sıvı molekülleri arasındaki kuvvetler - - II - - kuvvetleridir.  
• - - III - - sıvının akmaya karşı gösterdiği dirençtir.

Yukarıdaki cümlelerde boş bırakılan yerlere aşağıdakilerin hangisi getirilmelidir?

	I	II	III
A)	Yüzey gerilimi	Adezyon	Kohezyon
B)	Viskozite	Yüzey gerilimi	Adezyon
C)	Adezyon	Kohezyon	Viskozite
D)	Kohezyon	Adezyon	Viskozite

12. Miktarı ve hacmi sabit tutulan ideal bir gaza ait basınç (P)-sıcaklık (K) grafiği aşağıdakilerin hangisinde doğru verilmiştir?



13. •  $NaCl$   
•  $I_2$   
•  $C_{(elmas)}$   
•  $Au$  (altın)

Yukarıda verilenlerden kaç tanesi iyonik katıdır? ( $_{11}Na$ ,  $_{17}Cl$ )

- A) 1 B) 2 C) 3 D) 4

14. •  $127^\circ C = 400 K$   
•  $233 K = -40^\circ C$   
•  $600 K = 327^\circ C$   
•  $-23^\circ C = 250 K$

Yukarıda verilen sıcaklık dönüşümlerinden kaç tanesi doğrudur?

- A) 1 B) 2 C) 3 D) 4

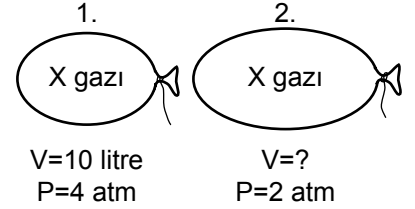
15. 2 mol  $CO_2$  gazında bulunan molekül sayısı aşağıdakilerin hangisinde doğru gösterilmiştir? (Avogadro sayısı =  $6,02 \cdot 10^{23}$ )

- A)  $6,02 \cdot 10^{23}$   
B)  $12,04 \cdot 10^{23}$   
C)  $18,06 \cdot 10^{23}$   
D)  $36,12 \cdot 10^{23}$

16. Aşağıda verilen basınç ile ilgili birim dönüşümlerinden hangisi doğrudur?

- A) 1 atm = 76 cm Hg  
B) 1 atm = 76 Torr  
C) 1 atm = 7600 mm Hg  
D) 1 atm = 1 Pa

17.



Yukarıda verilen elastik balonlarda aynı sıcaklıkta eşit miktarda X gazı bulunmaktadır.

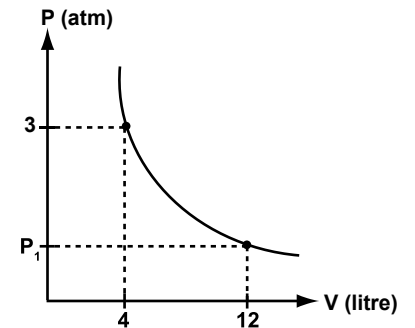
Buna göre 2. şekildeki gaz hacmi kaç litredir?

- A) 5 B) 10 C) 20 D) 40

18. Hal değişim olayları ile ilgili aşağıdakilerin hangisi doğrudur?

- A) Katı halden sıvı hale geçmeye donma denir.  
B) Sıvı halden gaz hale geçmeye buharlaşma denir.  
C) Katı halden gaz hale geçmeye erime denir.  
D) Gaz halden sıvı hale geçmeye süblimleşme denir.

19. Sabit sıcaklıkta bulunan belli bir miktar gaza ait basınç- hacim grafiği aşağıda verilmiştir.



Buna göre  $P_1$  değeri aşağıdakilerden hangisidir?

- A) 0,5 B) 1  
C) 1,5 D) 2

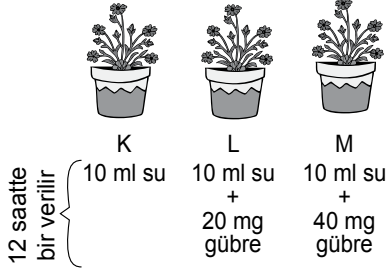
## 1. OTURUM

20. Böceklerin su yüzeyinde yürüyebilmeleri, suyun aşağıdaki özelliklerinden hangisi sayesinde mümkündür?

- A) Viskozite  
B) Buhar basıncı  
C) Adezyon kuvveti  
D) Yüzey gerilimi

### (441) BİYOLOJİ – 1

1.



“Gübre kullanıldığında bitkiler daha fazla büyümektedir” hipotezini test etmek isteyen bilim insanı yukarıdaki özdeş düzenekler ile kontrollü deneyi hazırlıyor. 24 saatte bir büyüme miktarını ölçüyor.

**Bu kontrollü deneyin bağımlı değişkeni hangisidir?**

- A) Su miktarı  
B) Toprak çeşidi  
C) Gübre miktarındaki değişimler  
D) Bitkideki büyüme ölçümleri

2. Aşağıdakilerden hangisi organik besin monomerlerinin parçalanması ile bu besinlerde depo edilmiş olan kimyasal bağ enerjisinin açığa çıkarılması sürecidir?

- A) Kemosentez B) Fotosentez  
C) Solunum D) Terleme

3. I. Fotosentez  
II. Solunum  
III. Beslenme

**Yukarıdakilerden hangilerinde ATP sentezi gerçekleşir?**

- A) Yalnız I B) I ve II  
C) II ve III D) I, II ve III

4. I. DNA  
II. RNA  
III. ATP

**Yukarıda verilenlerin hangilerinin yapısında riboz şekeri bulunur?**

- A) Yalnız I B) I ve II  
C) II ve III D) I, II ve III

5. I. Hipotez tekrar gözden geçirilir ve gerekli ise hipotez değiştirilir.  
II. Deney sonuçları raporlanarak bilim çevresine duyurulur.  
III. Yeni gözlem, deney veya araştırmalar yapılır.

**Verilerini analiz eden bilim insanı, verilerin hipotezi ile çeliştiği çıkarımına ulaşıyorsa yukarıdakilerden hangilerini yapması gerekir?**

- A) Yalnız I B) I ve II  
C) II ve III D) I, II ve III

6. Aşağıdaki polisakaritlerden hangisi suda çözünür?

- A) Nişasta B) Glikojen  
C) Selüloz D) Kitin

7. • Fazla alınması damar tıkanıklığı ve damar sertliğine neden olur.  
• Bitkisel dokularda bulunmaz.  
• Hücre zarının yapısına katılarak madde geçirgenliğini artırır.

**Yukarıda özellikleri verilen yağ hangisidir?**

- A) Omega 6 B) Kolesterol  
C) Zeytin yağı D) Ayçiçek yağı

8. Amino asitler ile ilgili aşağıdakilerden hangisi yanlıştır?

- A) İnsanların üretemediği 8 çeşit amino asite, temel aminoasit denir.  
B) Bütün amino asitler bitkiler tarafından sentezlenebilir.  
C) Bilinen 20 çeşit amino asitin hiçbiri insan hücrelerince üretilemez.  
D) Amino asit çeşitliliği yapısındaki radikal grup değişkenliği ile oluşur.

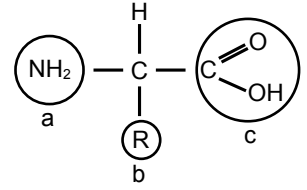
9. Isıtma, yüksek basınç ve tuz derişimi gibi çevresel faktörler etkisi ile proteinlerin yapısının bozulmasına ne ad verilir?

- A) Hidroliz B) Dehidrasyon  
C) Sentez D) Denatürasyon

10. Aşağıdakilerden hangisi A vitamininin özelliği değildir?

- A) Görme pigmentlerinin yapısına katılır.  
B) İnsanların kalın bağırsağındaki bakteriler tarafından da sentezlenir.  
C) Eksikliğinde gece körlüğü, kalp ve böbrek rahatsızlıkları görülür.  
D) Besinlerle provitamin olarak vücuda alındıktan sonra karaciğerde A vitaminine dönüştürülür.

11. Aşağıda bir amino asidin şekli gösterilmiştir:



**Buna göre a, b ve c ile ilgili hangisi doğru olur?**

	Amino grubu	Radikal grup	Karboksil grubu
A)	a	b	c
B)	a	c	b
C)	c	b	a
D)	c	a	b

12. DNA'nın görevleri ve yapısıyla ilgili olarak aşağıdakilerden hangisi yanlıştır?

- A) Protein sentezini kontrol ederek hücredeki metabolik olayları yönetir.  
B) Hücre bölünmesi sırasında kendini eşleyerek kalıtsal özelliklerin aktarımını sağlar.  
C) Baz, şeker ve fosfata kadar parçalanması için gerekli su miktarı n-2'dir.  
D) Sentezlenirken bir pürin bazının karşısına daima bir pirimidin bazı gelir.

13. I. Robert Brown  
II. T. Schwann  
III. R. Virchow

**Yukarıda verilen bilim insanlarından hangilerinin hücreyle ilgili çalışması olmuştur?**

- A) Yalnız I B) Yalnız II  
C) Yalnız III D) I, II ve III



## 1. OTURUM

14. Bir hücrede enzim sentezi yapılırken aşağıdakilerden hangisinin miktarında artış olur?

- A) Su B) DNA  
C) Amino asit D) ATP

15. • Glikoprotein, glikolipit ve lipoproteinlerin sentezlenmesini sağlar.  
• Bitkilerde ara lamel oluşumunu sağlar.  
• Sindirim enzimi taşıyan lizozomu oluşturur.

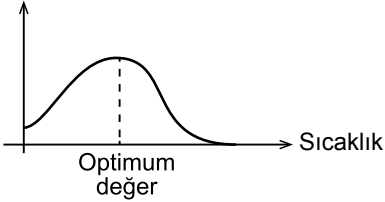
Özellikleri verilen hücre organelli aşağıdakilerden hangisidir?

- A) Endoplazmik retikulum  
B) Golgi aygıtı  
C) Sentrozom  
D) Mitokondri

16. Kromoplasttaki renk pigmentleri bitkilere verdikleri renklerle eşleştirilirse aşağıdakilerden hangisi doğru olur?

- |            | Ksantofil | Karoten | Likopen |
|------------|-----------|---------|---------|
| A) Sarı    | Turuncu   | Kırmızı | Kırmızı |
| B) Sarı    | Kırmızı   | Turuncu | Turuncu |
| C) Turuncu | Kırmızı   | Sarı    | Sarı    |
| D) Turuncu | Sarı      | Kırmızı | Kırmızı |

17. Reaksiyon hızı



Reaksiyon hızına sıcaklığın etkisiyle ilgili verilen grafik incelendiğinde,

- I. Düşük sıcaklık dereceleri enzimin etkinliğini azaltır.  
II. Yüksek sıcaklıkta enzimin yapısı bozulduğundan görev yapamaz.  
III. Enzimin en iyi çalıştığı değer, optimum değerdir.

İfadelerinden hangileri doğrudur?

- A) Yalnız II B) I ve II  
C) I ve III D) I, II ve III

18. I. Tübülün proteinlerinden oluşmuştur.  
II. İçi boş çubuk şeklindeki yapılarıdır.  
III. Hücre içinde sürekli oluşup ayrışabilir.

Verilenlerden hangisi hücre iskeleti elemanlarından olan mikrotübüller ile ilgilidir?

- A) Yalnız I B) I ve III  
C) II ve III D) I, II ve III

19. Pasif geçiş olayları ile ilgili olarak aşağıdakilerden hangisi yanlıştır?

- A) Zamanla ortamlar arası yoğunluk farkı azalır.  
B) Madde taşınırken enerji harcanmaz.  
C) Madde taşınması sadece tek yönlüdür.  
D) Difüzyon ve osmoz şeklinde gerçekleşir.

20.

	Özellik	Prokaryot hücreler	Ökaryot hücreler
I.	Çekirdek zarı	Yok	Var
II.	Mitokondri	Var	Var
III.	Ribozom	Yok	Var

Verilen tablo incelendiğinde hangi özellikler doğrudur?

- A) Yalnız I B) I ve II  
C) I ve III D) II ve III

### (442) BİYOLOJİ – 2

1. Farklı canlı türlerine ait aşağıda verilen adlandırmalardan hangisi sınıflandırma kurallarına göre doğru yazılmıştır?

- A) *FELİS leo*  
B) *Felis domesticus*  
C) *canis Lupus*  
D) *canis FAMILİARİS*

2. Sınıflandırma basamaklarında türden aleme doğru gidildiğinde aşağıdakilerden hangisi doğru olur?

- A) Benzer şubeler sınıfı oluşturur.  
B) Benzer aileler takımı oluşturur.  
C) Benzer cinsler sınıfı oluşturur.  
D) Benzer aileler alemi oluşturur.

3. Canlıların akrabalık derecesi ile ilgili,

- I. Türden aleme doğru artar.  
II. Kromozom sayısı aynı olanların akrabalık derecesi fazladır.  
III. Akrabalık arttıkça protein benzerliği de artar.

Verilenlerden hangileri doğrudur?

- A) Yalnız III B) I ve III  
C) II ve III D) I, II ve III

4. Bazı bakterilerde uygun olmayan ortam şartlarında su kaybederek ve kalın bir örtü oluşturarak kendilerini koruma altına aldıkları yapı aşağıdakilerden hangisi ile tanımlanır?

- A) Mezozom B) Kamçı  
C) Endospor D) Kapsül

5. Bakterilerde gözlenen konjugasyon olayı için,

- I. Sonucunda bakteri sayısı artmaz.  
II. Oluşan bakteriler genetik olarak birbirinin aynısıdır.  
III. Oluşan bakteriler ortam koşullarına karşı dayanıksızdır.

Verilenlerden hangileri kesinlikle doğrudur?

- A) Yalnız I B) Yalnız III  
C) I ve II D) I ve III

6. Aşağıda verilen sınıflandırma yöntemlerinden hangisi ampirik (yapay) sınıflandırma kurallarınca yapılmamıştır?

- A) Doğadaki canlılar bitkiler ve hayvanlar olmak üzere iki gruptur.  
B) Hayvanlar yaşam ortamlarına göre; karada, suda ve havada yaşayanlar olmak üzere sınıflanır.  
C) Hayvanlar alemi, insanlara olan etkilerine göre; faydalılar, zararlılar ve gereksizler olarak gruplanır.  
D) Omurgalı hayvanlar, anatomik, fizyolojik ve embriyolojik benzerliklerine göre; balıklar, kurbağalar, sürüngenler, kuşlar ve memeliler olmak üzere gruplanır.

## 1. OTURUM

7. Protista grubuna ait canlıların oluşturduğu kolonilere aşağıdakilerden hangisi örnek verilmez?

- A) Volvoks B) Öglena  
C) Pandorina D) Eudorina

8. Oluşturdukları yalancı ayaklarını besin alımında ve aktif hareket etmede kullanan protista canlılarına aşağıda verilenlerden hangisi örnek gösterilmez?

- A) Radiolaria B) Paramesyum  
C) Foraminifera D) Amip

9. • İletim demetlerinin gövdedeki dizilişi düzenlidir.  
• Enine kalınlaşmayı sağlayan kambiyum dokusu bulunur.  
• Kökleri kazık kök şeklindedir.

Verilen özelliklere sahip bitkilere aşağıdakilerden hangisi örnek gösterilmez?

- A) Lale B) Badem  
C) Bakla D) Domates

10. Mantarlar aleminin üyelerinde görülen özellikler ile ilgili aşağıda verilenlerden hangisi yanlış bir açıklamadır?

- A) Miselyumları ile hem ortama tutunur hem de beslenirler.  
B) Çok hücreli olanlarında hif adı verilen iplikçi yapılar bulunur.  
C) Genellikle eşeyli ve eşeysiz evrenin birbirini takip ettiği üreme şekline sahiptir.  
D) Fotosentez koşulları oluştuğunda ototrof, oluşmadığında heterotrof beslenir.

11. Aşağıda verilen özelliklerden hangisi sadece memeli canlılara özgü olup diğer omurgalı hayvanlarda görülmez?

- A) Kalplerinin dört odalı olması  
B) Akciğer solunumu yapması  
C) Vücut sıcaklıklarının sabit olması  
D) Sesleri toplayan kulak kepçelerinin olması

12.

	Tek çenekli bitkiler	Çift çenekli bitkiler
I.	Saçak kök sistemi vardır.	Kazık kök sistemi vardır.
II.	Kambiyum dokusu bulunur.	Kambiyum dokusu bulunmaz.
III.	Yaprakta paralel damarlanma vardır.	Yaprakta ağsı damarlanma vardır.

Tek ve çift çenekli bitkilerin bazı özellikleri ile ilgili verilen tablo incelendiğinde hangi özelliklerde yanlışlık yapılmıştır?

- A) Yalnız II B) I ve II  
C) II ve III D) I, II ve III

13. I. Kancalı kurt  
II. Tenya  
III. Sülük

Verilen solucan çeşitleri dahil oldukları grupla eşleştirilirse aşağıdakilerden hangisi doğru olur?

Yassı solucan	Yuvarlak solucan	Halkalı solucan
A) I	II	III
B) I	III	II
C) II	I	III
D) II	III	I

- A) I II III  
B) I III II  
C) II I III  
D) II III I

14. Aşağıda verilen hayvanlardan hangisi Avrupa'da nesli tükenmekte olan hayvanlar içerisinde olup üreme alanı ülkemiz sınırları içerisinde yer alan ormanlardır?

- A) Anadolu miflonu  
B) Gelengi  
C) Şah kartal  
D) Vaşak

15. Ses kirliliğinde kulak zarının patlamasına neden olabilecek dB(desibel) değeri aşağıdakilerden hangisinde verilmiştir?

- A) 30-65 dB  
B) 90-120 dB  
C) 120-140 dB  
D) 140 dB ve üzeri

16. Toprak kirliliğine,

- I. Ağır metaller  
II. İnsektisitler  
III. Septik tanklar

verilenlerden hangileri neden olabilir?

- A) Yalnız I B) Yalnız III  
C) I ve II D) I, II ve III

17. Aşağıda verilen bitkilerden hangisi monokotiledonlar (tek çenekliler) grubuna aittir?

- A) Badem B) Mısır  
C) Elma D) Domates

18. Işık kirliliğinin insanlar üzerindeki etkisine aşağıdakilerden hangisi örnek gösterilmez?

- A) Deniz ile kara arasındaki aydınlık farkını kullanan canlıların fazla ışıktan dolayı denize bir daha dönmeyerek ölebilmesi  
B) Melatonin salgılanmamasına bağlı östrojen yetersizliği ve sonucunda oluşan göğüs kanseri  
C) Fazla güneş ışığına maruz kalma sonucu farklı cilt hastalıkları ve cilt kanseri oluşumu  
D) Işık şiddeti ve yoğunluğunda meydana gelen değişiklik sonrası ruh sağlığındaki bozulmaya bağlı SAD hastalığı

19. Aşağıda verilenlerden hangisi benzoik asit ve bileşiklerinin insanlarda neden olduğu rahatsızlıklardan biri değildir?

- A) Çocuklarda hiperaktivite ve ürtiker  
B) Beyin zedelenmesi  
C) Aşırı şişmanlık  
D) Deride kızarıklık, şişlik ve kaşıntı

20. Aşağıda verilenlerden hangisi doğal radyasyon kaynaklarından değildir?

- A) Kozmik ışınlar  
B) Gama ışını  
C) Nükleer serpinti  
D) Radon

(452) Ç. TÜRK ve DÜNYA TAR.- 2

1. Aşağıdakilerden hangisi, Nisan 1973'te Adalet Partisi (AP) ile Cumhuriyet Halk Partisi (CHP)'nin desteğini alarak Türkiye Cumhuriyeti Devleti'nin 6. cumhurbaşkanı olarak seçilmiştir?

- A) Cemal Gürsel  
B) Cevdet Sunay  
C) Fahri Korutürk  
D) Süleyman Demirel

## 1. OTURUM

2. Aşağıdakilerden hangisi 27 Mayıs 1960 askerî müdahalesi sonucunda yargılanarak idam cezasına çarptırılan devlet adamlarından biri değildir?

- A) Refik Koraltan
- B) Hasan Polatkan
- C) Adnan Menderes
- D) Fatin Rüştü Zorlu

3. Aşağıdakilerden hangisi Yunanistan'ın kara sularını 12 mile çıkarma amaçlarından biri değildir?

- A) Eski Bizans İmparatorluğu'nu yeniden kurmak
- B) Ege Denizi'ndeki hâkimiyet alanını genişletmek
- C) Ege Denizi'ndeki uluslararası su alanını kısıtlamak
- D) Türk gemi ve uçaklarının Ege'den Akdeniz'e çıkışlarına sınırlamalar getirmek

4. " - - - 'ın başrolünü oynadığı "Bir Teselli Ver" ile birlikte başlayan arabesk tarzı filmler çekilmeye başlamıştır."

Verilen cümlede boş bırakılan yere, aşağıdakilerden hangisi yazılmalıdır?

- A) Zeki Müren
- B) Ferdi Tayfur
- C) Münir Özkul
- D) Orhan Gencebay

5. Sovyetler Birliği Komünist Partisi Genel Sekreteri Mihail Gorbaçov'un;

"I - Perestroyka" ve "II - Glasnost"

adını verdiği reform çalışmalarının anlamı, aşağıdakilerin hangisinde doğru verilmiştir?

I	II
A) İhtilal	Proletarya
B) Açıklık	Yeniden yapılanma
C) Yeniden yapılanma	Açıklık
D) Süper güç	Diktatör

6. SSCB'nin Afganistan'ı işgali sırasında Afgan halkının Sovyet işgaline karşı sergilediği halk direnişine ne ad verilmiştir?

- A) Hamas
- B) Muhacirler
- C) Basmacılar
- D) Mücahitler

7. Yugoslavya'dan ilk kopan devlet, aşağıdakilerden hangisidir?

- A) Bosna – Hersek
- B) Hırvatistan
- C) Makedonya
- D) Slovenya

8. Nahcivan Özerk Cumhuriyeti'nin aşağıdaki devletlerden hangisiyle kara sınırı yoktur?

- A) Azerbaycan
- B) Ermenistan
- C) Türkiye
- D) İran

9. Orhan Pamuk, aşağıdaki ödüllerden hangisini almıştır?

- A) OSCAR
- B) Nobel Kimya Ödülü
- C) Nobel Edebiyat Ödülü
- D) Altın Palmiye Sinema Ödülü

10. Aşağıdaki tarihlerin hangisinde Türkiye, Helsinki'de yapılan AB Devlet ve Hükümet Başkanları Zirvesi'nde oy birliği ile "Avrupa Birliğine Aday Ülke" olarak kabul edilmiştir?

- A) 12 Eylül 1963
- B) 01 Ocak 1996
- C) 12 - 13 Aralık 1997
- D) 10 - 11 Aralık 1999

11. GAP (Güneydoğu Anadolu Projesi), aşağıdaki illerden hangisini kapsamaz?

- A) Adıyaman
- B) Malatya
- C) Mardin
- D) Şırnak

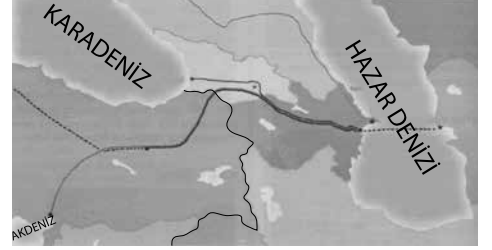
12. Cumhurbaşkanı Turgut Özal'ın 1993 yılında vefatı sonrasında aşağıdakilerden hangisi cumhurbaşkanı olmuştur?

- A) Kenan Evren
- B) Abdullah Gül
- C) Süleyman Demirel
- D) Ahmet Necdet Sezer

13. Aşağıdakilerden hangisi dünyada son 30 yıl içinde etkili olan salgın hastalıklardan biri değildir?

- A) Veba
- B) AIDS
- C) Sıtma
- D) Kuş Gribi

14.



Dilsiz haritada verilen boru hattının geçtiği ülkeler, aşağıdaki seçeneklerin hangisinde doğu - batı yönünde doğru sıralanmıştır?

- A) Azerbaycan - İran - Türkiye
- B) Azerbaycan - Gürcistan - Türkiye
- C) Azerbaycan - Rusya Federasyonu - İran - Türkiye
- D) Azerbaycan - Rusya Federasyonu - Gürcistan - İran - Türkiye

15. Kyoto Protokolü, aşağıdaki sorunlardan hangisinin çözümü için hazırlanmıştır?

- A) Açlık
- B) Küresel ısınma
- C) Uluslararası terör
- D) Nüfus artışı ve işsizlik

16. Keşmir Bölgesi'nin, Pakistan ile Hindistan arasında paylaşılmasının en önemli nedeni, aşağıdakilerden hangisidir?

- A) Çin'in nüfuzu altında bulunması
- B) Hinduizm'in doğduğu topraklar olması
- C) Zengin yer altı kaynaklarına sahip olması
- D) Hint Okyanusu'na açılan liman kenti olması

17. Bağlantısızlık hareketinin 1961 yılındaki ilk teşkilatlı toplantısı, aşağıdaki şehirlerin hangisinde yapılmıştır?

- A) İstanbul
- B) Roma
- C) Paris
- D) Belgrad

## 1. OTURUM

18. Nükleer, biyolojik ve kimyasal silahlar dışındaki her türlü klasik silahlara "Konvansiyonel Silahlar" denir.

**Buna göre;**

- I. Bakteriyolojik silahlar
- II. Atom bombası
- III. Tank
- IV. Ağır makineli tüfek

**gibi silahlardan hangileri konvansiyonel silahlar grubundan değildir?**

- A) Yalnız I      B) I ve II  
C) II ve III      D) I, III ve IV

19. **Aşağıdaki olaylardan hangisi diğerlerinden daha önce gerçekleşmiştir?**

- A) İsrail Devleti'nin kurulması  
B) Vietnam Savaşı'nın başlaması  
C) İran – Irak Savaşı'nın son bulması  
D) SSCB'nin Afganistan'ı işgal etmesi

20. **Aşağıdakilerden hangisi, Yumuşama Dönemi'nin başlarında ABD ile SSCB arasında devam eden uzay yarışına daha sonra katılan devletlerden biri değildir?**

- A) Çin      B) Japonya  
C) Fransa      D) Çekoslovakya

### (465) TEMEL DİNİ BİL. – 1

1. **Aşağıdakilerden hangisi**

"Tanrısal, mutlak bilgiye sezgiyle ulaşılabileceğini" ileri süren inanç biçimidir?

- A) Gnostisizm      B) Agnostisizm  
C) Ateizm      D) Politeizm

2. • Temelinde Mutlak Varlık inancı vardır.  
• Yaratıcı, yok edici ve koruyucu üç tanrıya inanılır.  
• Ruhun ölümsüzlüğüne inanılır.  
• Kast sistemi vardır.

**Yukarıda birtakım özellikleri verilen din hangisidir?**

- A) Budizm      B) Taoizm  
C) Sihizm      D) Hinduizm

3. **Aşağıdakilerden hangisi politeist bir inanca sahip değildir?**

- A) Zerdüştlük      B) Hinduizm  
C) Şintoizm      D) İslamiyet

4. Yahudilerin önem verdikleri ibadet yerlerinin başında Kudüs'teki mabet gelmektedir. Yahudiler, saldırılar sonucu yıkılan bu mabetten geriye kalan batı duvarı önünde dua ederler. Bu duvara Ağlama Duvarı denir.

**Yukarıda bahsedilen mabet hangi peygamber tarafından yaptırılmıştır?**

- A) Hz. Yakup  
B) Hz. Davut  
C) Hz. Süleyman  
D) Hz. İbrahim

5. **Aşağıdakilerden hangisi Hint dinleri arasında yer almaz?**

- A) Budizm      B) Şintoizm  
C) Caynizm      D) Sihizm

6. "Yedi kollu şamdan" ve "altı köşeli yıldız" aşağıdaki dinlerden hangisinin sembolüdür?

- A) Budizm      B) Hristiyanlık  
C) Hinduizm      D) Yahudilik

7. **Allah'ın varlığının kendiliğinden olması, var olmak için başka varlığa ihtiyacı olmaması olarak tarif edilen sıfatı aşağıdakilerden hangisidir?**

- A) Kıyam binefsihi  
B) Muhalefet'ün li'l havadis  
C) Vahdaniyet  
D) Tekvin

8. **Sözlükte "kulluk" olarak tarif edilen, belli kuralları olan hareketleri ve buyrukları yapmaya ne ad verilir?**

- A) Dua      B) İman  
C) İbadet      D) Temizlik

9. **Allah'ın, yarattıklarına benze-memesi anlamına gelen sıfatı aşağıdakilerden hangisidir?**

- A) Kıyam bi nefsihi  
B) Muhalefet'ün li'l havadis  
C) Kudret  
D) Tekvin

10. **İnsanları belalardan koruyan melek aşağıdakilerden hangisidir?**

- A) Kiramen Katibin  
B) Hafaza Melekleri  
C) Rıdvan Meleği  
D) Münker-Nekir Melekleri

11. **Aşağıdakilerden hangisi insanın sorumlu tutulmasının sebebi-dir?**

- A) Canlı olması  
B) Ölümlü olması  
C) Akıllı ve İrade sahibi olması  
D) Konuşma özelliğine sahip olması

12. **Aşağıdaki davranışlardan hangisi ibadet olarak değerlendirilemez?**

- A) Yardımı menfaat beklentisiyle yapmak  
B) İşlerde doğruluktan ayrılmamak  
C) Helal rızık için çalışmak  
D) Oruç tutmak

13. **Usulüne uygun abdest alan bir kişinin, yüzünü yıkadıktan hemen sonra aşağıdakilerden hangisini yapması gerekir?**

- A) Kolları yıkaması  
B) Ayakları yıkaması  
C) Başını mesh etmesi  
D) Enseyi mesh etmesi

14. **Aşağıdakilerden hangisi namaz kılan bir kişinin secdede okuduğu tespihattır?**

- A) Rabbenâ lekel hamd  
B) Sübhâne Rabbiyel- a'lâ  
C) Sübhâne Rabbiyel-azîm  
D) Semî'allahü limen hamideh

## 1. OTURUM

15. Aşağıdakilerden hangisi Ramazan ayı ile ilişkili değildir?

- A) Teravih namazı
- B) Kadir gecesi
- C) Fitre
- D) Hac

16. Kible ile ilgili verilen bilgilerden hangisi yanlıştır?

- A) İnananların birliğini sembolize eder.
- B) Müslümanların ilk kiblesi Kâbe'dir.
- C) Namaz kılanların döndüğü yöndür.
- D) Beytul Makdis de, Müslümanların kiblesi olmuştur.

17. Dua ile ilgili aşağıdaki bilgilerden hangisi doğrudur?

- A) Dua Arapça olmalıdır.
- B) Dua yalnız söz ile yapılmalıdır.
- C) Maddî talepler duada yer almamalıdır.
- D) Diğer insanlar için de dua etmek güzeldir.

18. Kurban bayramı aşağıdaki ayların hangisinde yer almaktadır?

- A) Recep
- B) Zilkade
- C) Zilhicce
- D) Muharrem

19. Hacda “şeytan taşlama” görevinin yapıldığı mekân hangisidir?

- A) Mina
- B) Merve
- C) Arafat
- D) Müzdelife

20. Beş vakit namazın farzlarının toplamı kaç rekâttir?

- A) 40
- B) 33
- C) 20
- D) 17

### (466) TEMEL DİNİ BİL. – 2

- I. Gizli konuşma
- II. İlham etme
- III. İşaret etme
- IV. Tane tane okuma

Yukarıdakilerden hangisi ya da hangileri “vahiy” kelimesinin sözlük anlamıdır?

- A) Yalnız I
- B) Yalnız IV
- C) III ve IV
- D) I, II ve III

2. Vahiy ile ilgili aşağıda verilen bilgilerden hangisi yanlıştır?

- A) Vahyin bir anlamı da haberleşmedir.
- B) Kur'an'a göre Allah canlı - cansız bütün varlıklara vahyetmiştir.
- C) Vahiy Allah'tan insana ve insandan Allah'a olmak üzere çift yönlüdür.
- D) Vahiy, Cebrail'in peygamberlere getirdiği ilahî bilgidir.

3. Kur'an-ı Kerim hangi halife döneminde kitap hâline getirilmiştir?

- A) Hz. Ebu Bekir
- B) Hz. Osman
- C) Hz. Ömer
- D) Hz. Ali

4. Aşağıdakilerden hangisi Hz. Peygamber'in vahiyleri korumaya yönelik aldığı tedbirlerden değildir?

- A) Unutulmaması için ezberletmek
- B) Yassı kemik ve benzeri şeylere yazdırmak
- C) Her yıl mevcut vahiyleri Cebrail ile karşılıklı okumak
- D) Vefatından hemen önce, tüm vahiyleri kitaplaştırmak

5. “Ey insanlar!” ifadesi ile başlayan ayetler Kur'an'ın hangi özelliğine delil oluşturur?

- A) Mucizeviliğine
- B) Evrenselliğine
- C) Yol göstericiliğine
- D) Açıklayıcılığına

6. Kur'an'daki her bir cüzde kaç tane hizb vardır?

- A) 4
- B) 6
- C) 8
- D) 10

7. Aşağıdaki kişilerden hangisinin Kur'an mealı vardır?

- A) Mustafa Sabri Efendi
- B) Rıfat Börekçi
- C) Hasan Basri Çantay
- D) Kamil Miras

8. Aşağıdaki peygamberlerden hangisine suhuf verilmiştir?

- A) Hz. Eyyüb
- B) Hz. Musa
- C) Hz. Davud
- D) Hz. İbrahim

9. Aşağıdaki peygamber isimlerinden hangisi Kur'an'da geçmez?

- A) Hz. İdris
- B) Hz. Şit
- C) Hz. İlyas
- D) Hz. Şuayb

10. Aşağıdakilerden hangisi İslam tarihinde “hüzün yılı” olarak bilinen senede vefat etmiştir?

- A) Hz. Hamza
- B) Ebu Talib
- C) Hz. Aişe
- D) Abdülmuttalib

11. Aşağıdakilerden hangisi Hz. Muhammed (sav.)'e verilen lakaptır?

- A) el-Hakem
- B) es-Sıddık
- C) el-Faruk
- D) el-Emin

12. Aşağıdakilerden hangisi Medine'ye hicretten önce vefat etmiştir?

- A) Hz. Mus'ab b. Umeyr
- B) Hz. Halid b. Velid
- C) Hz. Hatice
- D) Hz. Aişe

13. Aşağıdakilerden hangisi Mekke'nin fethi sırasında Hz. Peygamber'in “sığınmaları durumunda insanların emin olacakları”nı ilan ettiği yerlerden biri değildir?

- A) Ebû Süfyan'ın evi
- B) Kişinin kendi evi
- C) Harem-i Şerif
- D) Dârü'l-Erkâm

14. Aşağıdakilerden hangisi Hudeybiye Barış Antlaşması'ndan önce gerçekleşmiştir?

- A) Veda Haccı
- B) Uhud Savaşı
- C) Mekke'nin Fethi
- D) Hz. Peygamberin vefatı

15. Ahlakın konusu aşağıdakilerden hangisidir?

- A) İnsan davranışları
- B) Yaşayan dinler
- C) İman esasları
- D) Örf ve adetler

## 1. OTURUM

### (478) MANTIK – 1

16. “Artık kim (elinde bulunandan) verir ve (Allah’tan) sakınırsa, en güzeli (Allah’ın birliğini) tasdik ederse, biz de onu en kolayla hırlarız. (Leyl suresi, 5-7. ayetler)

**Bu ayetlerde aşağıdaki konuların hangisinden bahsedilmiştir?**

- A) İyilik etmek  
B) Cömert olmak  
C) Hoşgörülü olmak  
D) Kötülükten sakınmak

17. Selamın yaygınlaştığı bir toplumda aşağıdakilerden hangisinin artması beklenmez?

- A) Küskünlük ve dargınlık  
B) Güven ve dostluk  
C) Barış ve hoşgörü  
D) Sevgi ve saygı

18. Başkaları hakkında önyargılı bir şekilde olumsuz tahminlerde bulunmaktır.

**Tanımı yapılan kavram aşağıdakilerden hangisidir?**

- A) Yalan  
B) Sui zan  
C) Empati  
D) İftira

19. Hz. Muhammed (sav.)’den günümüze kadar Müslüman toplumların din, sosyal hayat, siyaset, kültür ve medeniyet alanlarında yaşadıklarını inceleyen bir ilim dalıdır.

**Hakkında bilgi verilen ilim dalı aşağıdakilerden hangisidir?**

- A) Peygamberler Tarihi  
B) Mezhepler Tarihi  
C) Dinler Tarihi  
D) İslam Tarihi

20. Aşağıdakilerden hangisi matematik alanında tanınmış bilim insanlarından biridir?

- A) Harezmi  
B) İbn Batuta  
C) Katip Çelebi  
D) Evliya Çelebi

1. Kendi başına anlam taşıyan en küçük birim terimdir. Tek başına anlamı olmayan sözcükler terim sayılmaz.

**Buna göre aşağıdakilerden hangisi bir terimdir?**

- A) Bu  
B) İse  
C) Ki  
D) İnsan

2. Aşağıdakilerden hangisi mantığın konusunu oluşturur?

- A) Deney ve gözleme dayanarak evren hakkında bilgi edinme  
B) Yargının nesnesine uygunluğunu araştırma  
C) Doğru düşünmenin kurallarını gösterme  
D) Önergelerin içerikleriyle ilgilenme

3. Aşağıdakilerden hangisi İslam mantıkçılarından?

- A) Razi  
B) Russel  
C) Morgan  
D) Descartes

4. Tümden gelim genel ilkelerden hareket ederek tek tek olaylar hakkında bir yargıya ulaşma yoludur.

**Buna göre aşağıdakilerden hangisi tümden gelim yoluyla akıl yürütmeye örnek olur?**

- A) Bütün işçiler üretkendir. Kemal işçidir. O halde, kemal de üretkendir.  
B) İnsan canlıdır ve beslenir. Hayvan canlıdır ve beslenir. O halde tüm canlılar beslenir.  
C) İstanbul ve Ankara büyük şehirdir. İstanbul’da trafik sıkışmıştır. O halde Ankara’da da trafik sıkışmıştır.  
D) Dünya ve Mars kendi çevresi etrafında döner. Dünyada gece gündüz oluşur. O halde Mars’ta da gece gündüz oluşur.

5. “Ali hem çalışkandır hem de tembel” diyemeyiz. Aynı anda Ali hem tembel hem de çalışkan olamaz.

**Bu açıklamanın dayanağı akıl ilkelerinden hangisidir?**

- A) Özdeşlik  
B) Çelişmezlik  
C) Yeter sebep  
D) Üçüncü durumun olanaksızlığı

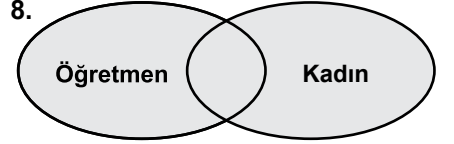
6. “İnsan-insanlık” kavramları arasındaki ilişki aşağıdakilerden hangisinde verilmiştir?

- A) Kollektif-distribütif  
B) Olumlu-olumsuz  
C) Somut-soyut  
D) Tümel-tikel

7. Aşağıdakilerden hangi sadece neliği olan fakat gerçekliği olmayan bir kavramdır?

- A) Kaf dağı  
B) İnsan  
C) Kedi  
D) Elma

8.



**Bu diyagrama dayanarak aşağıdakilerden hangisine ulaşamaz?**

- A) Bazı öğretmenler kadındır.  
B) Tüm öğretmenler kadındır.  
C) Bazı kadınlar öğretmendir.  
D) Öğretmen olmayan kadın vardır.

9. İliinti, birçok türde ortaklaşa bulunan özelliklerdir.

**Buna göre aşağıdakilerden hangisi insanın ilintisidir?**

- A) Sosyalleşmek  
B) Alet yapmak  
C) Yürümek  
D) Düşünmek

10. I. Kategorilerden en üstte bulunan cinslerin  
II. Koku, ses gibi duyuusal verilerin  
III. Aşk gibi duygusal yaşantıların

**Verilenlerden hangilerinin işlemel olarak tanımlanamaz?**

- A) I ve II  
B) I ve III  
C) II ve III  
D) I, II ve III

## 1. OTURUM

11. Aşağıdakilerden hangisi önerme değildir?

- A) Ali çalışkan değildir.
- B) Allah'ım yardım et.
- C) Kar beyazdır.
- D) 2+2=4

12. Basit önermeler, içerisinde tek yargıyı barındıran önermelerdir.

**Buna göre aşağıdakilerden hangisi basit önermedir?**

- A) Hava yağmurlu ise rutubet fazladır.
- B) Bilim öğretici ve mantıksaldır.
- C) Ali ve Ahmet çalışkandır.
- D) Tebeşir beyazdır.

13. Bir yargıyı karşılaştırma ile ifade eden önermeler karşılaştırmalı bileşik önermedir.

**Aşağıdaki önermelerden hangisi, karşılaştırmalı bileşik bir önermedir?**

- A) Ali Ahmet'ten daha çalışkandır.
- B) Ayşe öğrencidir.
- C) Ekrem sporcudur.
- D) Tüm çiçekler güzel kokar.

14. Tikel olumlu bir önermenin alt karşıtı olan önerme tikel olumsuzdur.

**Buna göre "Bazı insanlar erdemlidir." önermesinin alt karşıtı aşağıdakilerden hangisidir?**

- A) Bütün erdemliler insandır.
- B) Hiçbir insan erdemli değildir.
- C) Bazı insanlar erdemli değildir.
- D) Bütün insanlar erdemlidir.

15. Düz döndürme, bir önermenin niteliğini değiştirmeden özne ve yüklem yerinin değiştirilerek anlamca eşdeğer, aynı doğruluk değerine sahip yeni bir önerme yapmaktır.

**Aşağıdakilerden hangisi "Bazı insanlar hastadır." önermesinin düz döndürmesidir?**

- A) Bütün hastalar insandır.
- B) Bazı hastalar insandır.
- C) Hiçbir insan hasta değildir.
- D) Bazı insanlar hasta değildir.

16. Aşağıdaki terimlerden hangisinin içlemi en fazladır?

- A) Varlık
- B) Canlı
- C) Ağaç
- D) Gül ağacı

17. Yüklemler kesin kıyas kurallarına göre iki tikel öncülden çıkan sonuç önermesiyle ilgili doğru ifade aşağıdakilerden hangisidir?

- A) Sonuç olumludur
- B) Sonuç tümel olumludur
- C) Sonuç tikel olumludur
- D) İki tikel öncülden sonuç çıkmaz

18. • Bütün insanlar ölümlüdür.  
• Ahmet insandır.  
• ...

**Yukarıda öncülleri verilen kıyasın geçerli sonucu aşağıdakilerden hangisidir?**

- A) O hâlde Ahmet ölümlüdür.
- B) O hâlde Ahmet ölümsüzdür.
- C) Bazı insanlar ölümlüdür.
- D) Bazı ölümlüler insandır.

19. Hırsızlık yapanlar huzursuzdur. (Delili: Çünkü toplum ve vicdanı kendisini ayıplar.)  
Huzursuz kimse mutlu olamaz. (Delili: Çünkü mutluluk huzuru gerektirir.)  
Öyleyse hırsızlık yapan kimse mutlu değildir.

**Yukarıdaki kıyas aşağıdakilerden hangisine örnektir?**

- A) Zincirleme kıyas
- B) Delilli kıyas
- C) Basit kıyas
- D) Karma kıyas

20. Bir kıyasta, öncüllerden zorunlu olarak çıkan önerme aşağıdakilerden hangisiyle ifade edilir?

- A) Sonuç
- B) Karşıt
- C) Altık
- D) Çelişik

### (483) SAĞLIK BİLGİSİ – 1

1. Aşağıdakilerden hangisi, ayak-kabı seçiminde dikkat edilecek hususlardandır?

- A) Topuk yüksekliğinin 2-2,5 cm olması
- B) Yalnızca sağ ayakta denenecek alınması
- C) Sivri burunlu ayakkabıların tercih edilmesi
- D) Başparmakla ayakkabı burnu arasında hiç boşluk olmaması

2. I. Kemik iltihapları  
II. Alerjik rahatsızlıklar  
III. Kalp zarı iltihaplanması

**Yukarıdakilerden hangileri, diş etlerinde meydana gelebilecek iltihaplanma ya da dişlerdeki çürümeye bağlı enfeksiyonların neden olduğu rahatsızlıklardandır?**

- A) Yalnız I
- B) I ve II
- C) II ve III
- D) I, II ve III

3. Özellikle yetişkinlik ve yaşlılık dönemlerinde toplumsal çatışmalar, kaygı ve stresin yaşanması, sinir sistemine bağlı değişiklikler gibi çeşitli nedenlerden dolayı kişinin ruh sağlığı bozulabilir.

**Verilen bilgi ruh sağlığını etkileyen kişisel faktörlerden hangisiyle ilgilidir?**

- A) Yaş
- B) Meslek
- C) Cinsiyet
- D) Medeni durum

4. Aşağıdakilerden hangisi, sınav kaygısının sınav performansı üzerindeki olumsuz etkilerdendir?

- A) Sınav başarısını artırması
- B) Sınav esnasında soruların kolaylıkla cevaplanabilmesi
- C) Kavram ve sözcüklerin kolay hatırlanabilmesi
- D) Düşünceleri organize etmede zorlanması

5. Aşağıdakilerden hangisi, alkolün karaciğere verdiği zararlardandır?

- A) Siroz
- B) Hafıza kaybı
- C) Denge bozukluğu
- D) Beslenme bozukluğu

## 1. OTURUM

6. İletişim engellerini kaldırmanın en etkin yolu, öncelikle engelin farkına varmak ve sonra da bu engeli ortadan kaldırmaktır.

**Buna göre, aşağıdakilerden hangisi iletişim engellerini ortadan kaldırmak için kullanılması gereken yöntemlerden biri değildir?**

- A) Kaynak ve alıcının fiziksel ve psikolojik rahatsızlıklarının giderilmesi
- B) Mesajın anlaşılıp anlaşılmadığının geri bildirimle kontrol edilmesi
- C) Mesajın, alıcıyı etkileyecek türden bir kanalla gönderilmesi
- D) Kaynağın gönderdiği mesajların sadece sözlü olması

7. **Sevgi göstermeme, aşağılama, devamlı eleştirme, kıskançlık, reddetme gibi eylemlerin yer aldığı şiddet türüne ne ad verilir?**

- A) Cinsel şiddet
- B) Fiziksel şiddet
- C) Duygusal istismar
- D) Ekonomik istismar

8. **Maddenin kullanılmamasıyla ortaya çıkacak rahatsızlığı önlemek ve daha önce elde edilen doyuma ulaşmak amacıyla madde alma isteği duymaya ne ad verilir?**

- A) Yoksunluk sendromu
- B) Psikolojik bağımlılık
- C) Fiziksel bağımlılık
- D) Tolerans gelişimi

9. **Keyif alma duygusunun ön planda olduğu, istenildiği zaman uyuşturucunun bırakılabileceğinin düşünüldüğü ve vücutta kalıcı bir fiziksel hasarın olmadığı madde bağımlılığı dönemi aşağıdakilerden hangisidir?**

- A) Bıkma dönemi
- B) Alışma dönemi
- C) Doyma dönemi
- D) Düşkünlük dönemi

10. **Aşağıdakilerden hangisi, sigara bağımlılığının tedavisinde yapılması önerilen uygulamalardan dandır?**

- A) Sigara içmeye sebep olan yerlere gitmek
- B) Bırakmak için en uygun günü aramak
- C) Fiziki aktiviteleri en aza indirmek
- D) Sigarayı birden bırakmak

11. Doku ve hücrelerde normal dışı yapısal ve işlevsel değişikliklerin doğurduğu haldir.

**Bu cümlede tanımı yapılan kavram, aşağıdakilerden hangisidir?**

- A) Sağlık
- B) Hastalık
- C) Toksik
- D) Fizik tedavi

12. I. Tifo  
II. Balık pulluluk  
III. Nörofibromatozis

**Verilenlerden hangileri, bünyesel etmenlere bağlı olarak oluşan kalıtsal hastalıklardandır?**

- A) Yalnız I
- B) I ve II
- C) II ve III
- D) I, II ve III

13. **Aşağıdakilerden hangisi, birinci basamak tedavi hizmetleri kapsamında değerlendirilir?**

- A) Sağlık ocakları
- B) Entegre ilçe hastaneleri
- C) Eğitim ve araştırma hastaneleri
- D) Kamu kurumlarına ait tıp merkezleri

14. **Aşağıdakilerden hangisi, sağlık hizmeti almak için sağlık kuruluşuna başvuranların sahip olduğu haklardan biri değildir?**

- A) Bilgi talep edebilme hakkı
- B) Refakatçi bulundurma hakkı
- C) Hastane malzemelerine zarar verme hakkı
- D) İnsani değerlere saygı gösterilmesi ve ziyaret hakkı

15.

	Büyüme	Gelişme
I.	Niceliksel ve niteliksel değişiklikler beraber olur.	Sadece niceliksel değişim gözlenir.
II.	Fiziksel değişim vardır.	Fiziksel, bilişsel, duygusal ve sosyal özellikler ortaya çıkar.

**Büyüme ile Gelişme kavramları arasındaki temel farklarla ilgili olarak, tabloda verilen bilgiler için ne söylenebilir?**

- A) I. doğru, II. yanlış
- B) I. yanlış, II. doğru
- C) Her ikisi de doğru
- D) Her ikisi de yanlış

16. **Bebeklik döneminin kaçınıcı ayında olan sağlıklı bir bebek, kendi başına oturabilir?**

- A) 1.
- B) 3.
- C) 5.
- D) 7.

17. Yaşlılık döneminde; iskelet-kas, solunum ve dolaşım sistemine ait belirgin değişiklikler ortaya çıkar.

**Buna göre, aşağıdakilerden hangisi solunum sistemine ait değişikliklerdendir?**

- A) Kalp atışının yavaşlaması
- B) Kalp kaslarının zayıflaması
- C) Göğüs kafesinin daralması
- D) Kan basıncının yükselmesi

18. **Aşağıdakilerden hangisi, fiziksel aktivitenin sağladığı yararlarıdır?**

- A) Vücudun düzenli çalışması
- B) Zihinsel gelişimin yavaşlaması
- C) Duygusal gelişimin engellenmesi
- D) Tüketilen besinlerin vücuda verdiği zararları artırması

19. Üç basamağı olan sağlığın korunması kavramı birincil, ikincil ve üçüncül koruma hizmetlerini içerir.

**Buna göre, verilenlerden hangisi birincil koruma hizmetleri kapsamında değerlendirilir?**

- A) Erken tanı
- B) Rehabilitasyon
- C) Aile planlaması
- D) Tedavi hizmetleri

20. **Aşağıdakilerden hangisi, yeterli ve dengeli beslenen kişilerin sahip olduğu özelliklerden biri değildir?**

- A) Çalışmaya istekli kişilik
- B) Pürüzlü ve kuru bir cilt
- C) Kuvvetli, gelişimi normal kaslar
- D) Boy uzunluğuna uygun vücut ağırlığı



## 1. OTURUM

### (484) SAĞLIK BİLGİSİ – 2

1. Aşağıdakilerden hangisi, kanserin oluşumunda rol oynayan nedenlerdendir?

- A) Temiz hava
- B) Radyasyona maruz kalma
- C) Yeterli ve dengeli beslenme alışkanlığı
- D) Sigara ve alkol kullanımından kaçınma

2. Diyabet hastaları, ev dışına tek başlarına çıkıyorlarsa üzerlerinde diyabet tipinin ve acil durumlarda iletişime geçilecek kişilerin telefon numaralarının yazılı olduğu bir kart bulundurmalıdırlar.

**Bu uygulamanın diyabet hastalarına sağladığı fayda, aşağıdakilerden hangisidir?**

- A) Şeker oranını dengede tutması
- B) Sağlam kişilere hastalığı bulaştırmasını önlemesi
- C) Rahatsızlandığında tedavisinin daha çabuk yapılması
- D) Etrafındakilere diyabetten korunma yollarını öğretmesi

3. Hipertansiyon, kalp ve damar hastalıklarının en önemlilerinden birisidir. Eğer tedavi edilmezse vücudumuzun çeşitli bölgelerinde ciddi sorunlar ortaya çıkarabilir.

**Buna göre;**

- I. Böbrek hasarı
- II. Gözlerde görme kaybı
- III. Beyin kanaması ve felç

**verilenlerden hangileri, hipertansiyonun vücudumuza verdiği zararlardandır?**

- A) Yalnız I
- B) I ve II
- C) II ve III
- D) I, II ve III

4. Aşağıda akdeniz anemisi ile ilgili verilen bilgilerden hangisi doğrudur?

- A) Bu hastalığa sahip çocuk, doğduğunda normaldir.
- B) Diğer bir ismi de demir eksikliği anemisi.
- C) Hastaların iştahları artmıştır.
- D) Kalıtımsal geçiş gözlenmez.

5. Kronik akciğer hastalığının ileri dönemlerinde; morarma, aşırı yorgunluk, güçsüzlük, kalp yetersizliği ve kalpte ritim bozuklukları görülebilir.

**Buna göre, kronik akciğer hastalarında görülen yukarıdaki rahatsızlıklar hangisinin yetersizliğine bağlı olarak gelişir?**

- A) Posa
- B) Kalsiyum
- C) Oksijen
- D) D vitamini

6. I. Temas  
II. Kalıtım  
III. Su ve besinler

**Verilenlerden hangileri, bulaşıcı hastalıkların bulaşma yollarındandır?**

- A) I ve II
- B) I ve III
- C) II ve III
- D) I, II ve III

7. Aşağıdakilerden hangisi, bulaşıcı hastalıklardan korunmak için "sağlam kişiye yönelik" olarak alınan önlemlerdendir?

- A) İhbar yapmak
- B) Sağlıklı evlerde oturmak
- C) Portörleri saptamak ve tedavi etmek
- D) Pastörizasyon, kaynatmak ve pişirmek

8. Aşağıdakilerden hangisi, insanlarda aşılama ve ilaçla en iyi korumanın sağlandığı, solunum yoluyla bulaşan hastalıklardandır?

- A) Grip
- B) AIDS
- C) Brusella
- D) Kırım Kongo Kanamalı Ateşi

9. Ateşli havalede; musluk suyuyla ıslatılmış havlu veya küçük bez parçaları, hastanın vücudunun belirli bölgelerine yerleştirilir.

**Ateşi düşürebilmek için yapılan bu uygulamada hastanın vücut bölgelerinden hangisine, ıslatılmış bezlerin direkt olarak konulmaması önerilir?**

- A) Kasıklar
- B) Koltuk altları
- C) Göğüs bölgesi
- D) Dirseklerin iç yüzü

10. Aşağıdakilerden hangisi, evde hasta bakımında dikkat edilmesi gereken uygulamalardan biri değildir?

- A) Hastaya ait atıkların kurallara uygun şekilde imha edilmesi
- B) Solunum gücünü çeken hastanın baş tarafının yüksekte tutulması
- C) Hastanın yatak çarşaflarının sık aralıklarla değiştirilip yatağının havalandırılması
- D) Hastaya fayda sağlayabilecek ilaçların hekime sorulmadan belirlenip verilmesi

11. Türk Medeni Yasası, evlenmek için gerekli olgunluk ve gelişim düzeyini kaç yaş olarak belirlemiştir?

- A) 12
- B) 14
- C) 16
- D) 18

12. Aşağıdakilerden hangisi etkili ebeveynlerin özelliklerindendir?

- A) Çocuklarının hatalarını anlayışla kabul etmeleri
- B) Çocuklarla ilgili kararlarda yalnızca babanın söz sahibi olması
- C) Çocuklarının yetenek ve gelişimlerinin üstünde beklentiler içine girmeleri
- D) Çocuklarının bakımı ve yetiştirilmesinde yalnızca annenin sorumluluk alması

13. Aşağıdakilerden hangisi, aile planlamasının anne sağlığı açısından yararlıdır?

- A) Çocukların ekonomik ihtiyaçlarının daha iyi karşılanması
- B) Erken ve geç yaşta doğumları önlemesi
- C) Erken doğmuş çocuk sayısını azaltması
- D) Sağlıklı doğan bebek sayısını artırması

## 1. OTURUM

14. I. Anne sütünü etkilemediği için emziren kadınlar da kullanabilir.  
II. Kadında doğal olarak bulunan kadınlık hormonlarından yalnızca birini (progesteron) içerir.

**Genel koruma yöntemlerinden “mini hap” ile ilgili verilenler için ne söylenebilir?**

- A) I. doğru, II. yanlış  
B) I. yanlış, II. doğru  
C) Her ikisi de doğru  
D) Her ikisi de yanlış

15. Gebelikte, kemik dokusunun yapımı ve sağlığı için gerekli olan kalsiyum, fosfor gibi minerallerin yetersiz tüketimi ve D vitamini kaynağı olan güneş ışınlarından yeterli düzeyde yararlanamama, anne kemiklerinin yumuşamasına ve dokusunun bozulmasına neden olur.

**Bu açıklama, gebelik döneminde görülen sorunlardan hangisiyle ilgilidir?**

- A) Ödem                      B) Kabızlık  
C) Toksemi                  D) Osteomalasia

16. Aşağıdakilerden hangisi, gebe kadınlarda diyabetin görülme riskini artıran faktörlerdendir?

- A) Şişmanlık  
B) İki kez gebelik geçirmiş olmak  
C) Ailesinde kanser geçmişi olmak  
D) 25 yaş sonrasında gebe kalmak

17. Aşağıdakilerden hangisi, “lohusalık humması (al basması)” olarak bilinen hastalıktan korunmak için yapılması gereken uygulamalardandır?

- A) Şerbet içmek  
B) Kurdele bağlamak  
C) Su içmekten kaçınmak  
D) Temizlik kurallarına dikkat etmek

18. Aşağıdakilerden hangisi, iki yıldan kısa aralıklarla ve çok sayıda yapılan doğumların anne, çocuk ve toplum sağlığı üzerindeki etkilerinden biri değildir?

- A) Annede kansızlığa sebep olması  
B) Annenin ruh sağlığında bozulmaya yol açması  
C) Gebelik, düşük ve doğuma bağlı anne ölümlerini azaltması  
D) Toplumda, hasta anne ve çocuk sayısını artırması

19. Anne sütü ile ilgili verilen bilgilerden hangisi doğrudur?

- A) Bebeğe alerjik reaksiyonları artırır.  
B) Bebeği bağırsak enfeksiyonlarından korur.  
C) Doğumdan sonra gelen ilk süt, bebek için zararlıdır.  
D) Elzem yağ asitleri bakımından inek sütü, anne sütünden daha zengindir.

20. Gebelere - - - - aşısı (gebeliğin 4. ayında 1. aşı, birinci aşıdan en az 4 hafta sonra 2. aşı, ikinci aşıdan 6 ay sonra 3. aşı) yaptırılmalıdır.

**Bu ifadeye boş bırakılan yere aşağıdakilerden hangisi yazılmalıdır?**

- A) BCG                      B) Kızamık  
C) Suçiçeği                  D) Tetanos

### (491) TRAF. VE İLK YARD. – 1

1. I. Kesik yol çizgisi  
II. Devamlı yol çizgisi  
III. Yan yana iki devamlı yol çizgisi

**Taşıt yolu (Kaplama) üzerine çizilen çizgilerden hangileri, kurallara uyulmak şartıyla araçlar tarafından geçilebilir?**

- A) Yalnız I                      B) I ve II  
C) II ve III                      D) I, II ve III

2. Seyir esnasında araçlarda hangisinin kullanılması, olası bir kaza anında ölüm ve yaralanma riskini azaltır?

- A) Reflektör  
B) Polen filtresi  
C) Çekme halatı  
D) Emniyet kemeri

3. Alkollü içki içen bir sürücünde aşağıdaki durumlardan hangisi görülür?

- A) Dinç ve zinde olma  
B) Reflekslerinde zayıflama  
C) Manevra kabiliyetinde artma  
D) Aşırı hareketli ve uyumlu olma

4. Yaya ve okul geçitlerine yaklaşan bir sürücünün, aşağıdakilerden hangisini yapması yasaktır?

- A) Hızını azaltması  
B) Daha dikkatli olması  
C) Öndeki aracı geçmesi  
D) Takip mesafesini koruması

5. Aracın 2 saniyede gideceği yol uzunluğu, hangi mesafenin belirlenmesinde kullanılır?

- A) İntikal mesafesi  
B) Takip mesafesi  
C) Geçiş mesafesi  
D) Görüş mesafesi

6. Aşağıdakilerden hangisinin kara yollarında geceleri seyrederken yapılması yasaktır?

- A) Karşılaşmalarda ışıkların söndürülmesi  
B) Geçme sırasında öndeki aracın ışıkla uyarılması  
C) Öndeki araç yakından izlenirken kısa hüzmeli farların yakılması  
D) Sis ışıklarının sadece sis, kar ve şiddetli yağmur sebebiyle görüşün yetersiz olduğu hallerde kullanılması

7. Alaca karanlık ve gece karanlığında, yaya yolu bulunmayan yollarda yürümek zorunda kalan yayaların, aşağıdakilerden hangisini yapması doğru değildir?

- A) Kendi gidiş yönlerine göre yolun sol tarafındaki bankette yürümesi  
B) Uyarıcı açık renk elbise giymesi veya ışık taşıması  
C) Üzerlerinde yansıtıcı aksesuar bulundurması  
D) Trafik yoğunluğu az olan şeritte yürümesi

## 1. OTURUM

8. • Yolun genişliği  
• Yayanın yürüme hızı  
• Yayanın sağlık durumu

Yukarıda verilenler, kara yollarında karşıdan karşıya güvenli geçiş yapmak isteyen bir yaya için, hangi durumu belirlemeye yöneliktir?

- A) Asfalt kalitesini  
B) Karşıya geçiş süresini  
C) Trafikteki görevli sayısını  
D) Trafikteki araçların modelini

9. Motorlu bisiklet, motosiklet ve sürücüleri ile ilgili olarak aşağıdakilerden hangisinin yapılması yasaktır?

- A) Geçme yaparken sinyal verilmesi  
B) Tehlikeli madde taşıyan araçların geçilmesi  
C) Gidiş yönüne göre yolun en sağından seyredilmesi  
D) Sürücü arkasında yeterli oturma yeri olsa bile bir kişiden fazlasının taşınması

10. Hangi durumda bir aracın tescil belgesi geçersiz sayılır?

- A) Üzerinde teknik değişiklik yapıldığında  
B) Tescil belgesi araçta bulunmadığında  
C) Bakımı düzenli olarak yapıldığında  
D) Muayene süresi geçirildiğinde

11. Taşıt yolunun yalnız bir yöndeki taşıt trafiği için kullanıldığı kara yoluna ne ad verilir?

- A) İki yönlü kara yolu  
B) Tek yönlü kara yolu  
C) Bölünmüş kara yolu  
D) Erişme kontrollü kara yolu

12. Kara yolunda araç kullanan bir sürücünün, aşağıdakilerden hangisini yapması zorunludur?

- A) Bağlantı yollarında geri gitmesi  
B) Tek yönlü yola ters yönden girmesi  
C) Tali yoldayken ana yoldaki araçlara ilk geçiş hakkını vermesi  
D) Diğer sürücüleri tedirgin edecek şekilde araç kullanması

13. Trafik ortamını paylaşanlarda, aşağıdaki tutum ve davranışlardan hangisinin bulunması hâlinde trafik düzeni ve güvenliği olumsuz etkilenir?

- A) Kurallara uyulması  
B) Hoşgörülü olunması  
C) Bencillikten uzak durulması  
D) Kaba ve saldırgan davranılması

14. Aşağıdakilerden hangisi, toplu taşıma araçlarında yolcuların uymak zorunda olduğu kuraldandır?

- A) Taşıttan inileceği zaman duruşa gelmeden önce iniş kapısına yönelmek  
B) Belirlenen duraklar dışında inip binmek için ısrar etmek  
C) Kendi eşyaları arasında tehlikeli madde taşımak  
D) Fazla yük ve bagajla binmek

15. Aşağıdakilerden hangisi, trafiğin çevre üzerindeki olumsuz etkilerindendir?

- A) Araç bakımlarının zamanında ve tam olarak yaptırılmasına özen gösterilmesi  
B) Araçların egzoz borusu ve susturucularında orijinalliğin korunması  
C) Egzoz gazlarının hava kirliliğine neden olması  
D) Araç içinde daha kısık sesle müzik dinlenmesi

16. 2013-2014 yılları itibariyle ülkemizde meydana gelen trafik kazalarındaki kusur oranları tabloda verilmiştir.

Yıllar	Sürücü %	Yaya %	Yolcu %	Araç %
2013	88,97	8,91	0,43	0,92
2014	89,12	9,21	0,48	0,62

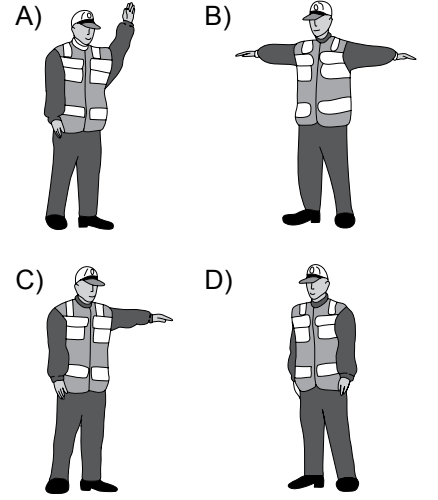
Buna göre, aşağıdakilerden hangisi trafik kazalarına en fazla neden olmuştur?

- A) Araç  
B) Yaya  
C) Yolcu  
D) Sürücü

17. Aşağıdakilerden hangisi, trafik kazalarının ülke ekonomisine verdiği zararlardan biri değildir?

- A) Trafik işaretlerinin hasar görmesi  
B) Kara yollarının zamanından önce yıpranması  
C) Trafik suçlarına uygulanan cezaların artırılması  
D) Yol kenarındaki oto korkuluklarının tahrip olması

18. Akan trafikte, trafik görevlisinin hangi hareketi "daha önce açık olan yolun kapanacağı, kapalı olan yolun ise açılacağı" anlamındadır?



19. Işıklı trafik işaret cihazında yanan hangi ışık, ikaz anlamında olup bu yerin yavaş ve dikkatli geçilmesi gerektiğini bildirir?

- A) Kırmızı oklu ışık  
B) Yaya figürlü yeşil ışık  
C) Fasıllı olarak yanıp sönen sarı ışık  
D) Fasıllı olarak yanıp sönen kırmızı ışık

20.



Şekildeki trafik işareti aşağıdakilerden hangisini bildirir?

- A) Bütün yasakların sona erdiğini  
B) Duraklama ve park etme yasasını  
C) Kontrolsüz kavşağa yaklaşıldığını  
D) Yolun araç trafiğine kapalı olduğunu

## 1. OTURUM

### (492) TRAF. VE İLK YARD. – 2

1. İlk yardımcı olarak bulunduğunuz bir kaza yerinde, kazazedelerden birinin öksürme ile ağzından açık kırmızı renkte, köpüklü kan geldiğini gözlemlediniz.

**Bu durumda, aşağıdaki organlardan hangisinin yaralandığını düşünürsünüz?**

- A) Mide B) Akciğer  
C) Böbrek D) Bağırsak

2. Birinci derece yanıklarla ilgili olarak verilenlerden hangisi doğrudur?

- A) İyileşince deride yanık izi kalması  
B) Deride içi su dolu kabarcıkların oluşması  
C) Derinin yalnızca üst kısmının zarar görmesi  
D) Sinirler zarar gördüğü için ağrı hissini olmaması

3. Bulantısı olmayan ve bilinci açık kazazedeye, su ve tuz kaybını gidermek için 1 litre su, 1 çay kaşığı karbonat ve 1 çay kaşığı tuz karışımı içirilir.

**Verilen ilk yardım uygulaması, aşağıdaki durumların hangisinde tercih edilir?**

- A) Çıkkık  
B) Donma  
C) Burkulma  
D) Sıcak çarpması

4. Kırık, çıkık ve burkulmaların tespiti sırasında dikkat edilmesi gereken hususlarla ilgili olarak, aşağıdakilerden hangisi yanlıştır?

- A) Yaralı bölgenin düzeltilmeye çalışılması  
B) Yara varsa üzerinin temiz bir bezle kapatılması  
C) Tespit edilecek bölgenin öncelikle yumuşak malzemeye kaplanması  
D) Tespitin, yaralı bölgenin üstünde ve altında kalan eklemleri de içine alacak şekilde yapılması

5. I. Yüksek ateş  
II. Beyin yaralanmaları  
III. Beyin enfeksiyonları

**Yukarıdakilerden hangileri havale nedenleri arasında yer alır?**

- A) Yalnız I B) Yalnız II  
C) Yalnız III D) I, II ve III

6. Aşağıdakilerden hangisi, sara (epilepsi) krizinin belirtilerinden biri değildir?

- A) Tükürük salgısının azalması  
B) Dokuların ve yüzün morarması  
C) Yoğun ve genel adale kasılmalarının olması  
D) Şiddetli ve ani bir şekilde bilincin kaybolması

7. Solunum yoluyla zehirlenmelere yol açabilen şofbenler genel olarak LPG ile çalışmakta ve sıcak su temini için birçok konutta kullanılmaktadır.

**Buna göre, şofben kullanılan banyolarla ilgili olarak verilen bilgilerden hangisi doğrudur?**

- A) Banyonun içeriden kilitlemesi  
B) Şofbenin iyi çeken bir bacaya bağlanması  
C) Şofbenin bulunduğu yere hava girişinin engellenmesi  
D) Şofben ile tüp arasındaki hortumun 125 cm'den uzun olması

8. Aşağıdakilerden hangisi, göğüs ağrısı yaşayan kazazedeye yapılacak ilk yardım uygulamalarındandır?

- A) Yarı oturur pozisyon verilmesi  
B) Egzersiz yapmasının sağlanması  
C) Kullandığı ilaçları varsa almasının engellenmesi  
D) Yaşam bulgularından, sadece solunumun değerlendirilmesi

9. • Hafif yaralı ve yürüyebilecek durumdaki kazazedelerin taşınmasında kullanılır.  
• Kazazedenin bir kolu ilk yardımcının boynuna dolanır, ilk yardımcı boşta kalan kolu ile de kazazedenin belini tutarak yardım eder.

**Yukarıda uygulama basamakları verilen taşıma tekniği hangisidir?**

- A) Kucakta taşıma  
B) Ellerin üzerinde taşıma  
C) İlk yardımcının omzundan destek alarak taşıma  
D) Kollar ve bacaklardan tutarak taşıma

10. Aşağıdaki resimlerde uygulama basamakları gösterilen teknik, sedye üzerine yerleştirme tekniklerinden hangisine aittir?



- A) Köprü tekniği  
B) Kaşık tekniği  
C) İtfaiyeci yöntemi  
D) Karşılıklı durarak kaldırma

11. Ülkemizde ilk yardım gerektiren her durumda, 112 Acil Yardım Servisinin aranması ve gerekli bilgilerin doğru olarak verilmesi bir insanlık görevidir.

**Buna göre, 112 Acil Yardım Servisinin aranması sırasında dikkat edilecek hususlarla ilgili olarak aşağıdakilerden hangisi doğrudur?**

- A) Olayın tanımını yapmaktan kaçınmak  
B) Kimin, hangi numaradan aradığını bildirmekten kaçınmak  
C) Herhangi bir ilk yardım uygulaması yapıldıysa bu durumu sağlık personelinde gizlemek  
D) Sakin olmak ya da sakın olan bir kişinin aramasını sağlamak

## 1. OTURUM

12. Aşağıdakilerden hangisi, eğitim almış kişilerce yapılan doğru ilk yardım uygulamalarının sağladığı yararlardandır?

- A) Ağrıyı artırması
- B) Şoku engellemesi
- C) Zedelenmeye sebep olması
- D) Ciddi sakatlıklara yol açması

13. Aşağıdakilerden hangisi, araç ilk yardım çantasında bulunması gereken malzemelerden biri değildir?

- A) Flaster
- B) Tansiyon aleti
- C) Küçük makas
- D) Esmark bandajı

14. Kazazedenin dolaşımı değerlendirilirken;

- I. Bebeklerde kol atardamarından,
- II. Çocuk ve yetişkinlerde şah damarından nabız alınır.

Verilenler için aşağıdakilerden hangisi söylenebilir?

- A) I. doğru, II. yanlış
- B) I. yanlış, II. doğru
- C) Her ikisi de doğru
- D) Her ikisi de yanlış

15. Yetişkinlere ve bebeklere yapılan temel yaşam desteği uygulamasında, göğüs kemiği kaç cm aşağı inecek şekilde kalp basısı uygulanır?

Yetişkin	Bebek
A) 3	1
B) 4	2
C) 5	4
D) 7	6

16. Kalp masajı uygulaması, aşağıdaki durumların hangisinde sonlandırılır?

- A) Kalp çalıştığı anda
- B) 112'ye haber verildiğinde
- C) Kazazedenin akrabaları geldiğinde
- D) Kazazedenin cildinde kızarıklıklar gözlemlendiğinde

17. Aşağıdakilerden hangisi, bebeklere yapılan sunu solunum uygulamasında dikkat edilecek kurallardandır?

- A) Bebeğin yumuşak bir zemin üzerine, sırt üstü yatırılması
- B) Hava yolu tıkanıklığına neden olan yabancı cisim varsa bebeğin yutmasının sağlanması
- C) Bebeğin solunum yapıp yapmadığının bak-dinle-hisset yöntemiyle 1 dakika süre ile kontrol edilmesi
- D) Solunum yoksa ağız, bebeğin ağız ve burnunu içine alacak şekilde yerleştirilip ağız dolusu nefes verilmesi

18. I. Kuvvetle arkaya ve yukarı doğru bastırılır.  
II. Kazazedenin arkasına geçip sarılarak gövdesi kavranır.  
III. Bir elin başparmağı midenin üst kısmına, göğüs kemiği altına gelecek şekilde yumruk yaparak konur. Diğer el ile yumruk yapılan el kavranır.

**Bilinci yerinde ve tam tıkanıklık yaşayan bir kazazedeye Heimlich Manevrası uygulayan bir ilk yardımcının, uygulama sıralaması nasıl olmalıdır?**

- A) II - I - III
- B) II - III - I
- C) III - I - II
- D) III - II - I

19. Suda boğulmalarda uygulanan ilk yardım uygulamasıyla ilgili olarak verilenlerden hangisi doğrudur?

- A) Suni solunum uygulamasının sığ sularda yapılması mümkün olmadığı için, kazazedenin derin suya doğru çekilmesi beklenmelidir.
- B) Suyu atlama sonucu oluşan boğulmalarda, baş iyice arkaya itilerek kazazedeye pozisyon verilir.
- C) Soğuk havalarda, 20-30 dakika geçse bile yapay solunum ve kalp masajına başlanır.
- D) Ağızdan buruna suni solunum uygulaması tercih edilmez.

20. Aşağıdakilerden hangisi, dış kanamalarda yapılacak ilk yardım uygulamalarındandır?

- A) Kanama durmazsa ikinci bir bez koyarak basıncın artırılması
- B) Uzun kopması durumunda turnike uygulamaktan kaçınılması
- C) Kanayan yere en uzak basınç noktasına baskı uygulanması
- D) Kanayan bölgenin kalp hizasının altına indirilmesi

(500) İNGİLİZCE – 6

1 - 20. sorularda boş bırakılan yere uygun gelen kelime veya ifadeyi işaretleyiniz.

1. If you sent some flowers to Hülya, - - - - .

- A) I would help her
- B) he would visit him
- C) she would forgive you
- D) they would buy flowers

2. If I were a doctor, I - - - - .

- A) can take medicine
- B) will clean the window
- C) would go on a picnic
- D) would help sick people

3. If you mix red and yellow, - - - - .

- A) it breaks
- B) they will melt
- C) it becomes ice
- D) you get orange

4. If we had saved money, we - - - - .

- A) could have bought a house
- B) would have told about you
- C) would have tasted better
- D) could have found a job

5. If you don't take your medicine regularly, - - - - .

- A) you will be healthy
- B) you can open the door
- C) you will never get better
- D) you can solve the problem

## 1. OTURUM

6. Selim - - - - TV since he came home.

- A) has been watching
- B) will be watching
- C) is watching
- D) watched

7. I have been waiting for you - - - - an hour.

- A) after            B) since
- C) before          D) for

8. What - - - - you - - - - this time tomorrow?

- A) do / do
- B) were / doing
- C) will / be doing
- D) have / been doing

9. I have to go to the airport. - - - - borrow your car?

- A) Must I            B) May I
- C) Should I        D) Would I

10. - - - - pick me up from the terminal?

- A) May I            B) Can I
- C) Have you        D) Could you

11. I will be flying to my hometown to see my parents - - - - .

- A) for a long time
- B) last month
- C) next week
- D) yesterday

12. I don't like horror movies. I - - - - watch them.

- A) generally        B) usually
- C) always          D) seldom

13. I have been looking for my dictionary. I looked - - - - but I couldn't find it.

- A) everywhere    B) nowhere
- C) anywhere      D) where

14. The questions were - - - - difficult - - - - I couldn't answer them.

- A) such / that    B) so / that
- C) as / as        D) very / as

15. You have to speak - - - - with your teachers.

- A) quick            B) fast
- C) easy             D) carefully

16. The plane is landing - - - - .

- A) next month
- B) last week
- C) at the moment
- D) yesterday

17. I can't finish my project - - - - I don't have enough time.

- A) because        B) or
- C) but              D) so

18. This time next month, we - - - - in Paris.

- A) have been shopping
- B) will be shopping
- C) had shopped
- D) are shopping

19. A: You are out of breath. What happened?

B: I - - - - .

- A) have been running
- B) are running
- C) will run
- D) run


20. A: My phone is out of order. - - - - I use yours?

B: Of course.

- A) Should          B) Can
- C) Did              D) Do

(500) ALMANCA – 6

1.



Was macht der Junge?

- A) Angeln            B) Schwimmen
- C) Reiten            D) Schreiben

2. Düzgün bir cümle oluşturunuz.

Klasse / bin / Ich / 9. / in der  
1    2    3    4    5

- A) 1 / 2 / 3 / 4 / 5
- B) 3 / 4 / 1 / 2 / 5
- C) 3 / 2 / 5 / 4 / 1
- D) 4 / 3 / 1 / 5 / 2

3. Aşağıdaki sözcüklerden hangisinin Türkçe karşılığı doğru verilmiştir?

- A) das Kleid = çorap
- B) der Pullover = pantolon
- C) sauber = kirli
- D) kaufen = satın almak

4 - 20. sorularda boş bırakılan yere uygun gelen kelime veya ifadeyi işaretleyiniz.

4. - - - - kommen aus Alanya.

- A) Tee                B) Kaffee
- C) Bananen        D) Ananas

5. - - - - ich Arzt wäre, - - - - ich den Kranken helfen.

- A) Wie / habe
- B) Wo / wäre
- C) Wenn / würde
- D) Würde / habe

6. Martin - - - - nicht im Bus.

- A) ist                B) bist
- C) sind             D) sein

## 1. OTURUM

7. Die Krankenschwester, ---- beim Hausarzt arbeitet, ist sehr nett.

- A) der B) die C) das D) sie

8. Der Lehrer sagt, alle Schüler in der Schule ---- krank.

- A) ist B) sei C) bin D) seien

9. Ich habe gehört, dass Sie Lehrer ----.

- A) bist B) seiest  
C) ist D) sind

10. Tina kommt ---- Frankfurt.

- A) ins B) aus C) bei D) zu


11. Wir ---- morgen zum Picknick gehen.

- A) wird B) ist  
C) werden D) sein

12. A: ---- möchten Sie Ihr Kaffee haben?  
B: Mit Milch.

- A) Wer B) Wie C) Wo D) Was

13.



A: Was ist das?  
B: Das ist ein ----.

- A) Stuhl B) Tisch  
C) Schrank D) Sessel

14. A: Können wir ---- zum Essen gehen?  
B: Ja, gerne.

- A) uns B) zusammen  
C) ihr D) euch

15. Hallo Peter, ich dachte du ---- in Deutschland. (Konjunktiv II)

- A) ist B) war  
C) wärest D) sei

16. Die Spieler, ---- ein weißes Trikot an haben, sind Türken.

- A) der B) die C) das D) den

17. Klaus und Ali haben die ---- Schuhgröße.

- A) gleiche B) gleich  
C) selber D) selbst

18. Helga lernt türkisch, ---- sie in Antalya leben möchte.

- A) weil B) denn  
C) um D) aber

19. A: Was ---- Sie zum Trinken?  
B: Eine Limonade, bitte.

- A) hat B) habe  
C) hätte D) hätten

20.



Der Ball ist ---- dem Bett.

- A) unter B) in  
C) auf D) neben

(500) FRANSIZCA – 6

1 - 18. sorularda boş bırakılan yere uygun gelen kelime veya ifadeyi işaretleyiniz.

1. Il pleut: ---- ton parapluie.

- A) prends B) est  
C) sois D) mangez

2. Nous écoutons de la musique en ---- du café au lait.

- A) mangent B) mangeons  
C) manger D) buvant

3. En venant, ---- du fromage blanc.

- A) achète B) acheter  
C) a acheté D) acheté

4. Pendant ses heures de loisir, Ahmet aime ---- à la bibliothèque.

- A) comprendre B) s'appeler  
C) lire D) connaître

5. ---- Turquie, les enfants ne vont pas ---- l'école le samedi et le dimanche.

- A) Au / en B) En / à  
C) À / en D) Aux / au

6. Nous passons à table, ---- -vous les mains!

- A) laver B) regardez  
C) travaillez D) lavez

7. Ne mangez pas avec ----.

- A) le ventre B) les doigts  
C) les jambes D) le cou

8. Chez tes grands-parents, ---- sage!

- A) aie B) ayons  
C) sois D) toi



## 1. OTURUM

9. Le petit déjeuner est servi - - - - ma femme.  
A) par B) de C) des D) en
10. Le fils de mon frère est mon - - - - .  
A) tante B) grand-père  
C) neveu D) oncle
11. - - - - buvez deux litres d'eau par jour.  
A) Nous B) Elle  
C) Ils D) Vous
12. Mehmet est le frère de Nursel. Nursel est - - - - de Mehmet.  
A) la tante B) la sœur  
C) la cousine D) le beau-fils
13. Hier soir, elles - - - - allées au théâtre.  
A) sont B) dont  
C) ont D) vont
14. A: Tu es encore fiancé?  
B: Non, je suis - - - - depuis deux mois.  
A) ouvrier B) jeune  
C) marié D) français
15. La mairie est - - - - .  
A) un lieu de travail  
B) un lieu de naissance  
C) un lieu de repos  
D) un lieu de vacances
16. Quand tu prends ta moto, - - - - ton casque.  
A) met B) a mis  
C) mettre D) mets
17. Sibel, on traverse la rue: - - - - -moi la main.  
A) en donnant B) donne  
C) donné D) donner

18. Le mois dernier, il est allé - - - - une semaine de vacances à Didim.  
A) sortir B) finir  
C) passer D) écouter
19. Verilen cümlelerin Türkçe dengini işaretleyiniz.  
Cette pièce a été mise en scène par Monsieur Işık.  
A) Bay Işık bu oyunu sahneye koyuyor.  
B) Bu oyun Bay Işık tarafından sahneye konulacak.  
C) Bay Işık bu oyunu sahneye koymayacak.  
D) Bu oyun Bay Işık tarafından sahneye konuldu.
20. Verilen cümlelerin Fransızca dengini işaretleyiniz.  
Yarın gelmeyiniz, evimde olmayacağım.  
A) Si tu viens dimanche, je serai chez moi.  
B) Ne venez pas demain, je ne vais pas être chez moi!  
C) Ne venez pas aujourd'hui, je vais chez lui!  
D) Demain matin, je vous attends chez moi.

### (501) İNGİLİZCE – 7

1 - 20. sorularda boş bırakılan yere uygun gelen kelime veya ifadeyi işaretleyiniz.

1. - - - - I had finished my homework, I watched my favorite TV show.  
A) If B) Before  
C) While D) After
2. I had searched on the Net - - - - I started my project.  
A) so B) before  
C) after D) although

3. I am very tired. I - - - - to fix the car all day long.  
A) try  
B) tries  
C) will be trying  
D) have been trying
4. The match had already - - - - when we got to the stadium.  
A) started B) seen  
C) watched D) gone
5. Joseph: "I am going to fly to Brazil."  
Joseph said that he - - - - to fly to Brazil.  
A) am going  
B) was going  
C) will be going  
D) has been going
6. My father: "Where have you been?"  
My father asked me where - - - - .  
A) have I been  
B) I have been  
C) had I been  
D) I had been
7. Yeşim: "I went shopping yesterday."  
Yeşim said that she had gone shopping - - - - .  
A) then  
B) that day  
C) the next day  
D) the previous day
8. The teacher: "Don't speak"  
The teacher told us - - - - .  
A) don't speak  
B) didn't speak  
C) not to speak  
D) not speaking



## 1. OTURUM

9. Salih: "Are you busy?"

Salih asked me ---- I was busy.

- A) by B) if C) about D) as

10. Duru's family is proud ---- her because she is the most successful student at the university.

- A) for B) at C) of D) on

11. My aunt is good ---- drawing pictures.

- A) at B) in C) on D) of

12. London is famous ---- its foggy and rainy weather.

- A) for B) at C) of D) in

13. Tourists all around the world are interested ---- Turkish culture.

- A) to B) at C) on D) in

14. The garden is ---- of flowers.

- A) afraid B) proud  
C) full D) good

15. My father is ---- with his car at the moment.

- A) ashamed B) busy  
C) worried D) interested

16. Ahmet has been interested in politics ---- he graduated from the school.

- A) yet B) since  
C) already D) recently

17. The mechanic hasn't repaired the car ----. We must wait.

- A) yet B) ever  
C) just D) already

18. I have ---- seen such a bad storm before.

- A) ever B) lately  
C) never D) so far

19. Melda ---- her keys. She is upset.

- A) would lose B) will lose  
C) to lose D) has lost

20. She ---- a strange noise before she slept.

- A) had heard B) has heard  
C) will hear D) hears

### (501) ALMANCA – 7

1. Aşağıdakilerden hangisi ayrılabilir fiildir (Trennbare Verben)?

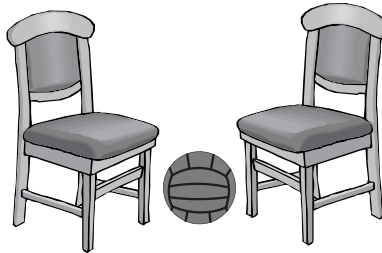
- A) vergessen B) beantworten  
C) gegangen D) mitkommen

2. Aşağıdaki Türkçe kelimelerin hangisinin Almanca karşılığı yanlış verilmiştir?

- A) akşam = Abend  
B) laut = gürültülü  
C) richtig = doğru  
D) schnell = yavaş

3 - 20. sorularda boş bırakılan yere uygun gelen kelime veya ifadeyi işaretleyiniz.

3.



Der Ball ist ---- den Stühlen.

- A) unter B) über  
C) zwischen D) neben

4. ---- Flugzeug, ---- Tante, ---- Junge

- A) das / die / der  
B) der / die / das  
C) die / der / das  
D) das / der / die

5. Ich bin mit dem Auto nach Izmir ----. (Perfekt)

- A) fahre B) fuhr  
C) gefahren D) fährt

6. Gegenteil von "leise" ist ----.

- A) groß B) lang  
C) laut D) schön

7. Ayşe hat jeden Tag ---- 9 Uhr ---- 14 Uhr Schule.

- A) von / bis B) um / zu  
C) ab / zu D) bis / um

8. Ich ---- mich jeden Tag.

- A) laufe B) wasche  
C) kaufe D) singe

9. Der Mann mit ---- Hut ist Herr Mehmet.

- A) der B) die C) das D) dem

10. Nach der Zahl zwanzig kommt ---- (21).

- A) zwölf  
B) einundzwanzig  
C) neunzehn  
D) eins und zwei

11. Die Prüfung dauert ---- 12 Uhr.

- A) bis B) um  
C) zum D) bei

12. Ahmet und Markus wollen gerne Computer ----.

- A) spiele B) spielt  
C) spielen D) gespielt

## 1. OTURUM

(501) FRANSIZCA – 7

1 - 18. sorularda boş bırakılan yere uygun gelen kelime veya ifadeyi işaretleyiniz.

13. **Wir** - - - - unserem Lehrer einen Brief.

- A) schreibe      B) schreiben  
C) schreibst    D) schreibt

14. **A: Wo sind** - - - - **Schuhe?**  
**B: Sie stehen vor der Tür.**

- A) deine          B) dein  
C) dir             D) du

15. **A: Kannst du** - - - - **sagen, wo meine Tasche ist?**  
**B: Sie ist auf dem Tisch.**

- A) mein          B) mir  
C) dein          D) dich

16. **Die Monate Dezember, Januar, Februar** sind im - - - - .

- A) Sommer      B) Frühling  
C) Herbst        D) Winter

17. - - - - , **Heute, Morgen**

- A) Übermorgen  
B) Gestern  
C) Vorgestern  
D) Jetzt

18. **Ali** - - - - die Prüfung bestanden. (**Perfekt**)

- A) habe          B) hast  
C) haben        D) hat

19. **A: Ali**, - - - - **Bus fährt nach Atakule?**  
**B: Bus Nummer 170.**

- A) welcher      B) welches  
C) welchen     D) welche

20. **A: Kommst du** - - - - **Österreich?**  
**B: Nein.**

- A) im             B) zum  
C) aus            D) um

8. **A: J'écoute de la musique.**  
**B: Pardon, qu'est-ce que tu dis ?**

**A: Je dis que (qu')** - - - - .

- A) il écoute mon CD  
B) j'écoute de la musique  
C) elle va écouter son CD  
D) j'ai écouté de la musique

9. **Marc: J'ai dix-neuf ans.**  
**Şule: Pardon, qu'est-ce qu'il dit ?**

**Rémi: Il dit que (qu')** - - - - .

- A) il aura dix ans  
B) elle aura neuf ans  
C) il a dix-neuf ans  
D) elle a dix-neuf ans

10. - - - - **attendent le métro avec des copains.**

- A) Nous          B) Vous  
C) Ils             D) Il

11. **Il fait froid**, - - - - **le taxi.**

- A) descend      B) prends  
C) descendu    D) pris

12. **A: Pourquoi Thomas n'est pas venu au café?**  
**B: - - - - il est allé chez le médecin.**

- A) Parce que(qu')  
B) Quand  
C) Comment  
D) Chez qui

13. **Le supermarché** - - - - **à 22 heures.**

- A) mange        B) cherche  
C) traverse      D) ferme

14. - - - - **un régime pour ne pas grossir.**

- A) Allez          B) Fais  
C) Donne        D) Nage

15. **Selda ne sort** - - - - **le dimanche, elle préfère rester à la maison.**

- A) souvent      B) personne  
C) jamais       D) rien

1. **Nous allons** - - - - **quand nous voulons acheter des billets.**

- A) à la pâtisserie  
B) au guichet  
C) à la pharmacie  
D) au marché

2. **J'ai rencontré tes frères à la cantine et je** - - - - **ai parlé.**

- A) lui             B) le  
C) leur           D) les

3. **Ils** - - - - **de bonnes vacances à Ayvalık.**

- A) sommes passés  
B) avons passé  
C) sont passées  
D) ont passé

4. **Kerem adore le thé. Il va** - - - - **souvent** - - - - .

- A) au café  
B) à l'épicerie  
C) au marché  
D) à la charcuterie

5. **Pour avoir un permis de conduire, il devra suivre des cours dans** - - - - .

- A) un défilé de mode  
B) une école primaire  
C) une auto-école  
D) une école maternelle

6. **Je vous présente Tahsin** - - - - **est mon ami d'enfance.**

- A) dont          B) qui  
C) où             D) que

7. **Il n'a pas fait ses devoirs, car** - - - - **un match de basket à la télé.**

- A) il y avait      B) il faisait froid  
C) c'était         D) il pleuvait

## 1. OTURUM

(502) İNGİLİZCE – 8

1 - 20. sorularda boş bırakılan yere uygun gelen kelime veya ifadeyi işaretleyiniz.

16. A: Léa écrit souvent à Marc et Zoé?  
B: Non, elle ----- écrit parfois.  
A) leur B) lui C) la D) le
17. A: Tu connais cet homme?  
B: Oui, je ----- connais.  
A) leur B) lui  
C) le D) la
18. Ahmet ----- le verre sur sa veste bleue.  
A) a été versé B) as versé  
C) est versé D) a versé

19 - 20. sorularda verilen resme göre doğru ifadenin bulunduğu seçeneği işaretleyiniz.

19.



Elle est ----- .

- A) gaie B) énervée  
C) souriante D) optimiste

20.



Il a ----- et il porte ----- .

- A) de la barbe / des lunettes  
B) une moustache / des lunettes  
C) de belles dents / une casquette  
D) les cheveux longs / des boucles d'oreilles

1. If you don't water plants, ----- .

- A) they die  
B) they grow  
C) they get wet  
D) they get green

2. I would buy a new car if ----- .

- A) I felt better  
B) I had a yacht  
C) I went to a doctor  
D) I had enough money

3. I don't have to go to school today ----- it is Saturday.

- A) because B) before  
C) after D) until

4. ----- Elif got up, she had a shower.

- A) Before B) As soon as  
C) Although D) In order to

5. She will be ----- for her exam when I get home.

- A) doing B) staying  
C) working D) studying

6. By the time the boss came, the workers ----- the work.

- A) finish  
B) had finished  
C) is going to finish  
D) will have finished

7. I am too tired. I will be sleeping ----- .

- A) in a few minutes  
B) two minutes ago  
C) at the moment  
D) yesterday

8. ----- the end of this term, everybody will have graduated from the school.

- A) From B) In  
C) On D) By

9. Ceyda is ----- hardworking ----- Selma.

- A) from / to B) such / as  
C) as / as D) so / as

10. She was walking when ----- .

- A) he is watching TV  
B) I saw her in the mall  
C) she will buy a present  
D) her mother walks every day

11. ----- I feel sleepy, I drink a cup of coffee.

- A) So that B) In order to  
C) Whenever D) Whatever

12. What would you do if you ----- a millionaire?

- A) are B) did  
C) do D) were

13. You called me ----- I was checking my e-mails.

- A) since B) where  
C) while D) because

14. ----- he had a terrible toothache, he went to the dentist.

- A) Since B) So  
C) For D) Until

15. Most of the leaves ----- by the end of November.

- A) are falling  
B) were falling  
C) will be falling  
D) will have fallen

16. I will ----- to Rome if I find a cheap flight.

- A) travel B) stay  
C) live D) take

## 1. OTURUM

17. All the questions - - - - by the students.

- A) answer      B) is answering  
C) answered    D) were answered

18. Some medicine is - - - - by my mother every day.

- A) eaten          B) taken  
C) beaten        D) fallen

19. Different vegetables were - - - - by the farmers in the south.

- A) broken        B) grown  
C) thrown       D) stolen

20. If I lived in Italy, I - - - - pizza every day.

- A) have eaten    B) had eaten  
C) would eat    D) will eat

### (502) ALMANCA – 8

1. "hell" kelimesinin karşıtı aşağıdakilerden hangisidir?

- A) lang            B) kurz  
C) dunkel        D) laut

2.



Was ist das?

- A) Ein Buch      B) Eine Zeitung  
C) Ein Heft      D) Ein Baum

3.



Was ist sie von Beruf?

- A) Lehrerin      B) Sportlerin  
C) Polizistin    D) Ärztin

4. Aşağıdakilerden hangisi fiildir?

- A) rot             B) leise  
C) schön         D) kaufen

5. "sauber" kelimesinin karşıtı aşağıdakilerden hangisidir?

- A) lang            B) kurz  
C) schmutzig    D) bunt

6. Aşağıdakilerden hangisi ayrılabilir fiildir (Trennbare Verben)?

- A) mitmachen    B) getrennt  
C) vergessen    D) zusammen

7. In welcher Jahreszeit sind die Monate September, Oktober, November?

- A) Frühling      B) Sommer  
C) Herbst        D) Winter

**8 - 20. sorularda boş bırakılan yere uygun gelen kelime veya ifadeyi işaretleyiniz.**

8. Ich werde morgen - - - - Antalya fahren.

- A) nach            B) aus  
C) um             D) zu

9. Das Haus, - - - - dort steht, ist 200 Jahre alt.

- A) der    B) die    C) das    D) den

10. Mein Vater arbeitet - - - - Garten.

- A) am    B) um    C) bis    D) im

11. - - - - ich Hunger habe, kaufe ich mir einen Döner.

- A) Was            B) Wenn  
C) Wo            D) Wie

12. Er lernt fleißig Deutsch, - - - - gute Noten - - - - bekommen.

- A) um / zu        B) von / bis  
C) mit / gut      D) für / zu

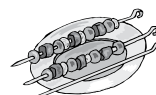
13. Der Berg Ağrı ist der - - - - Berg der Türkei.

- A) hoch            B) höchste  
C) höher          D) am höchsten


14.



10 TL



15 TL



8 TL

Hähnchen ist am - - - -.

- A) billig            B) billige  
C) billiger         D) billigsten

15. A: Seit wann - - - - du in Spanien?

B: Seit 2 Jahren.

- A) leben            B) lebe  
C) lebt             D) lebst

16. A: - - - - ist Kırkkale von Ankara entfernt?

B: Ich glaube 70 km.

- A) Wozu            B) Wie weit  
C) Womit          D) Wie lange


17. Der dick- - - - - Mann und die dünn- - - - - Frau sind verheiratet.

- A) -en / -e        B) -e / -en  
C) -e / -e        D) -es / -es

18. Ich - - - - jedes Jahr mit dem Flugzeug nach Köln.

- A) fliege            B) schwimme  
C) laufe            D) fahre

19.



Das ist ein - - - -.

- A) Lastwagen      B) Auto  
C) Bus              D) Straßenbahn

20. A: - - - - ich Sie etwas Fragen?  
B: Ja, bitte.

- A) Können         B) Kannst  
C) Könnten        D) Kann

1 - 18. sorularda boş bırakılan yere uygun gelen kelime veya ifadeyi işaretleyiniz.

1. Je ne vais pas à la mer le matin mais je (j') - - - - vais l'après-midi.  
A) le B) y C) en D) par
2. Pierre a rendez-vous à 11 heures. Il est 11h 20. Et il est encore chez lui.  
Il est - - - - .  
A) à midi B) en avance  
C) en retard D) à l'heure
3. Il a cassé les verres - - - - sa maladresse.  
A) pourquoi B) à cause de  
C) parce que D) grâce à
4. Pour grossir, il faut - - - - .  
A) manger beaucoup  
B) faire du sport  
C) perdre du kilo  
D) marcher
5. - - - - ils iront en vacances en Espagne.  
A) Avant-hier  
B) Hier  
C) L'été prochain  
D) Lundi dernier
6. A: Tu viens à mon anniversaire?  
B: - - - - .  
A) Si je vais mieux, je veux venir  
B) S'il a faim, il mange de la salade  
C) S'il a soif, il veut boire du lait  
D) S'il y a un bon film, je veux aller
7. Hakan n'a pas fait ses devoirs, car - - - - un film d'action à la télé.  
A) c'était  
B) il faisait froid  
C) il faisait chaud  
D) il y avait

## 1. OTURUM

8. Pierre : Sylvie, je n'ai plus de viande, tu peux aller - - - - ?  
Charlotte : D'accord, il faut autre chose ?  
Pierre : Oui, du poulet pour demain.  
A) à l'hôtel  
B) à la boulangerie  
C) à la librairie  
D) à la boucherie
9. Tu peux conduire mais il faut être - - - - .  
A) attentif B) hypocrite  
C) longue D) nouveau
10. - - - - ne m'avez rien donné.  
A) Je (J') B) Elle  
C) Vous D) Tu
11. Avant de sortir, - - - - votre ordinateur.  
A) appelez B) parlons  
C) croyons D) éteignez
12. Ce soir, on va à l'opéra. N'oublie pas de (d') - - - - trois tickets.  
A) acheter B) respecter  
C) habiter D) entendre
13. La boulangerie - - - - à 7 heures du matin.  
A) bois B) ouvre  
C) mange D) cherche
14. Jacques est une personne - - - - nous aimons beaucoup.  
A) dont B) où  
C) qui D) que
15. A : Qu'est-ce que vous prenez comme boisson?  
B : Je prends - - - - .  
A) de l'eau gazeuse  
B) du poisson  
C) du gâteau au miel  
D) de la pizza

16. A: Sonay téléphone souvent à - - - - ?  
B: Oui, elle leur téléphone souvent.  
A) sa mère B) ses parents  
C) son fils D) son père
17. A: Et toi, tu ne prends pas de frites?  
B: Si, mais je peux - - - - manger une fois par mois.  
A) y B) lui C) en D) les
18. Les Italiens mangent 28 kilos de pâtes - - - - personne - - - - an.  
A) en / en B) dans / en  
C) en / dans D) par / par

19- 20. sorularda verilen resme göre cümlede boş bırakılan kısmı tamamlayan sözcük ya da ifadenin bulunduğu seçeneği işaretleyiniz.

19.



Mme Dupont qui est - - - - a deux chats et un chien.

- A) une fausse amie  
B) une jeune fille  
C) une vieille femme  
D) un vieil homme

20.



Quand il fait beau, - - - - .

- A) il lave sa moto  
B) il fait du vélo  
C) il répare son vélo  
D) il voyage en auto

## 1. OTURUM

(533) HZ. MUHAMMED'İN HAY. – 3

1. "... Biz bunlara (putlara) sadece Allah'a daha çok yaklaştırsınlar diye kulluk ediyoruz... ." (Zümer suresi, 3. ayet)  
**Kur'an-ı Kerim bu şekilde inanan insanları aşağıdakilerden hangisiyle isimlendirmiştir?**
- A) Mülhit B) Münkir  
C) Müşrik D) Münafık
2. Yemen'i dini bir merkez yapmak için Kâbe'ye alternatif, görkemli bir mabet yaptıran lider aşağıdakilerden hangisidir?
- A) Heraklius B) Ebrehe  
C) Hürmüz D) Haris
3. İslam'dan önce Mekke'de haksızlıklara uğrayanları korumak, ezilen insanları kollamak maksadıyla kurulan, aynı zamanda Peygamberimizin de üye olduğu cemiyet aşağıdakilerden hangisidir?
- A) Daru'n-Nedve  
B) Darü'l-Erkam  
C) Batn-ı Nahle  
D) Hilfu'l- Fudul
4. Aşağıdakilerden hangisi Hz. Ömer'in "Cahiliye döneminde iki şey var ki birine ağlarım diğerine gülerim." dediği olaylardan biridir?
- A) Un ve helvadan yaptığımız putları acıkınca yedik.  
B) Kölelerimize zulüm yaptık.  
C) Kadınlarımıza değer vermedik.  
D) Kâbe'yi çıplak tavaf ederdik.
5. Peygamberimizin eşi Hz. Hatice hakkında aşağıda verilen bilgilerden hangisi doğrudur?
- A) Peygamberimizin halasının kızıydı.  
B) Ticaretle uğraşıyordu.  
C) Hicretten iki yıl sonra vefat etti.  
D) Peygamberimizin ikinci eşi idi.

6. Peygamberimize ilk vahiy geldiğinde onu teselli etmesi için Hz. Hatice kimin yanına götürmüştür?
- A) Varaka b. Nevfel  
B) Rahip Bahira  
C) Hz. Ebu Bekir  
D) Ebu Talip
7. Hz. Muhammed'in Mekke'den Medine'ye hicretinde misafir kaldığı Medine yakınlarındaki bir beldede yaptırdığı mescid aşağıdakilerden hangisidir?
- A) Mescid-i Nebi  
B) Mescid-i Dırar  
C) Mescid-i Kibleteyn  
D) Kûba Mescidi
8. Peygamberimiz Medine'de yaşayan farklı kabileler arasında bir antlaşma yaptı.
- Bu antlaşma aşağıdakilerden hangisidir?**
- A) Akabe Biati  
B) Hilfu'l-Fudul  
C) Medine Sözleşmesi  
D) Hudeybiye Antlaşması
9. Mekkeli müşriklerle Medinelî Müslümanlar arasında yapılan ilk savaş aşağıdakilerden hangisidir?
- A) Hendek B) Bedir  
C) Uhud D) Hayber
10. Hubeydiye Antlaşması kimler arasında yapılmıştır?
- A) Mekkelilerle - Bizanslılar  
B) Yahudilerle - Medinelî Müslümanlar  
C) Taiflilerle - Mekkeli Müşrikler  
D) Mekkelilerle- Medinelî Müslümanlar
11. Cuma namazı nerede ve ne zaman farz kılınmıştır?
- A) Mekke-621  
B) Medine-623  
C) Beni Salim yurdu-622  
D) Taif-620

12. Bedir, Uhut ve Hendek savaşlarının yapıldığı tarihleri hangisinde doğru olarak verilmiştir?
- A) 624-625-627  
B) 622-624-627  
C) 625-627-629  
D) 624-626-630
13. "Azhâb Savaşı" olarak bilinen savaş hangisidir?
- A) Uhut B) Hendek  
C) Mute D) Huneyn
14. Hz. Peygamber'in sağlıkla ilgili hadislerinin bütününe ne denir?
- A) Tıbb-ı Nebevi  
B) Hilye-i Şerif  
C) Kitabü's-Şifa  
D) El-Kanun fit-Tıp
15. "Bir yerde bulaşıcı hastalık görürseniz, oraya girmeyiniz. Bulaşıcı hastalık bulunan bir yerdeyseniz oradan da çıkmayınız."
- Bu hadiste Peygamber Efendimiz aşağıdakilerden hangisini vurgulamıştır?**
- A) Bulaşıcı hastalıkların tedavisinin yapılmasını  
B) Hasta olanların toplumdan dışlanmamasını  
C) Fert ve toplum sağlığının korunmasını  
D) Sağlığın kıymetinin bilinmesini
16. Aşağıdakilerden hangisi Hz. Peygamber'in yapılmasını tavsiye ettiği sporlardan biri değildir?
- A) Koşu B) Yüzme  
C) Atıcılık D) Boks
17. İslam'da alkollü içeceklerin yasaklanmasının asıl sebebi aşağıdakilerden hangisidir?
- A) Bağımlılık yapması  
B) Sağlığa zarar vermesi  
C) Tedavisinin zor olması  
D) Toplumun huzurunu bozması

## 1. OTURUM

### 18. İslam'a göre aşağıdakilerden hangisi yanlıştır?

- A) Hastalıklara sabredip umutsuz olmamak gerekir.
- B) Tedavi için doktorların tavsiyesine uyulmalıdır.
- C) Hastalıklar müminlerin günahlarına kefarettir.
- D) Hastalıklar karşısında kişinin öldürülmeyi istemesi mübahtır.

### 19. İnsanın, başkalarının sahip olduğu mal, makam ve ilim gibi kıymetleri kaybetmesini ve bu kişilerin kötü duruma düşmesini şiddetli bir şekilde istemesidir.

#### Tanımı yapılan kavram aşağıdakilerden hangisidir?

- A) Gıpta
- B) Haset
- C) Nankörlük
- D) Savurganlık

### 20. "Ey insanlar! Takat getireceğiniz işleri yapın. Zira siz ibadetten usanmadıkça Allah da sevap yazmaktan usanmaz. Allah'ın en çok hoşuna giden amel, az da olsa devamlı olanıdır."

#### Bu hadiste vurgulanan aşağıdakilerden hangisidir?

- A) İbadetlerde dengeli davranılması gerektiği
- B) Allah'ın, yapılan ibadetlerin karşılığını vereceği
- C) Zorlanılan ibadetlerden uzak durulması gerektiği
- D) Allah'ın kula gücünün üstünde yükler yüklemeyeceği

### (534) HZ. MUHAMMED'İN HAY. – 4

### 1. Yemen'de yaşayan Necranlı bir grup Peygamberimizle görüşmek amacıyla Medine'ye gelmiş ve bir süre sonra Peygamberimizden ibadet yapmak için müsaade istemişlerdi. Peygamberimiz de onlara Mescid-i Nebevî'de ibadetlerini yerine getirmeleri için izin vermişti.

#### Burada bahsedilen Necranlı grup hangi dine mensup idi?

- A) Mecusi
- B) Zerdüş
- C) Yahudi
- D) Hristiyan

### 2. Aşağıdaki ayetlerden hangisinin konusu din özgürlüğü ile ilgili değildir?

- A) "Ey Muhammed! Sen öğüt ver çünkü sen ancak öğüt vericisin..." (Gaşiye suresi, 21-22.ayetler)
- B) "Eğer inanmayıp yüz çevirirlerse bilsinler ki biz seni onların üzerine bekçi olarak göndermedik..." (Şura suresi, 48.ayet)
- C) "O (Allah), ümmîlere, içlerinden, kendilerine ayetlerini okuyan, onları temizleyen, onlara kitabı ve hikmeti öğreten bir peygamber gönderendir." (Cuma suresi, 2. ayet)
- D) "De ki hakikat Rabb'inizdendir. Artık dileyen inansın, dileyen inkâr etsin..." (Kehf suresi, 29.ayet)

### 3. Hz. Peygamberin, hak etmeyen kimseleri devlet işlerinde görevlendirmemesi, onun yönetimde aşağıdakilerden hangisine önem verdiğini gösterir?

- A) Eğitim ve öğretime
- B) Ehliyet ve liyakate
- C) Dostluk ve akrabalığa
- D) Toplumsal isteklere

### 4. Aşağıdakilerden hangisi Peygamberimizin düşünce ve ifade özgürlüğüne verdiği önem örnek gösterilebilir?

- A) İnsanları uyarması
- B) Merhametli davranması
- C) İstişareye önem vermesi
- D) Okur yazarlığı teşvik etmesi

### 5. "Bir Müslümanın başka bir Müslümanı korkutması helal değildir."

#### Yukarıdaki hadiste anlatılmak istenen temel düşünce aşağıdakilerden hangisidir?

- A) Hakları kullanırken başkalarına zarar vermemek
- B) Özel yaşamın gizliliğine dikkat etmek
- C) Konut dokunulmazlığının ihlal etmemek
- D) Düşünce ve ifade özgürlüğünü kullanabilmek

### 6. "Bir yerde bulaşıcı hastalık görürseniz, oraya girmeyiniz. Bulaşıcı hastalık bulunan bir yerdeyseniz oradan da çıkmayınız."

#### Bu hadis aşağıdaki temel haklardan hangisinin kısıtlanmasına gerekçe oluşturur?

- A) Mülk edinme hakkı
- B) Özel yaşamın gizliliği hakkı
- C) Seyahat etme özgürlüğü
- D) Düşünce ve ifade özgürlüğü

### 7. Temel hak ve özgürlüklerle ilgili olarak aşağıdakilerden hangisi yanlıştır?

- A) Peygamberimiz özgürlüklere hiçbir sınırlama getirmemiştir.
- B) İslam dini temel hak ve özgürlükleri korumayı amaç edinmiştir.
- C) İslam, başkasının özgürlüklerine müdahale etmeyi hoş karşılamaz.
- D) Peygamberimiz farklı inanç gruplarının ifade özgürlüğünü kısıtlamamıştır.

### 8. Peygamberimizin vahiy geldiğinde, heyecanını ilk olarak eşi Hz. Hatice ile paylaşması aşağıdakilerden hangisi için en iyi örnektir?

- A) Eşler arası eşitliğin gereği
- B) Eşler arası diyalog ve istişarenin önemi
- C) Aile bireyleri ile iyi ilişkiler kurma
- D) Aile bireyleri arasında adaleti gözetme

### 9. "Hiçbir mümin hanımına kin beslemesin. O'nun bir huyundan hoşlanmazsa belki başka bir huyundan hoşlanır."

#### Bu hadis aşağıdakilerden hangisini sağlamaya yöneliktir?

- A) Aile birliğinin devamını
- B) Kadın haklarını gözetmeyi
- C) Eşler arası görev paylaşımını
- D) Kadınların ailede aktif olmasını

## 1. OTURUM

10. “Ey insanlar! Doğrusu biz sizi bir erkekle bir dişiden yarattık. Ve birbirinizle tanışmanız için sizi kavimlere ve kabilelere ayırdık. Muhakkak ki Allah yanında en değerli olanınız, ondan en çok korkanınızdır. Şüphesiz Allah bilendir, her şeyden haberdardır.” (Hucurât suresi, 13.ayet)

**Bu ayette aşağıdakilerden hangisi vurgulanmıştır?**

- A) Allah her şeyi gören, bilen ve yerli yerince yaratandır.
- B) Kulluk bakımından kadın ve erkek arasında bir fark yoktur.
- C) İnsanların yapıp ettikleri kayıt altındadır ve her birinden hesaba çekilecektir.
- D) İnsanların farklı milletlere ayrılmış olmaları medeniyetin gelişmesini sağlamıştır.

11. Hz. Peygamber geceleri namaz kılarırken kible tarafında uyuyan Hz. Aişe'yi uyandırmamaya özen gösterirdi. Sefere çıkarken en son Hz. Fatıma ile vedalaşır ve dönerken de önce onun evine gidip hal hatırını sorardı.

**Bu metinden Hz. Peygamber ile ilgili aşağıdaki sonuçlardan hangisi çıkarılamaz?**

- A) Aile fertlerine değer verdiği
- B) Özel yaşamın gizliliğine saygı duyduğu
- C) İbadet ederken başkalarını rahatsız etmediği
- D) Aile bireylerinin durumlarıyla yakından ilgilendiği

12. İslam'a göre aşağıdaki ifadelerden hangisi doğrudur?

- A) Kadın ve erkeğe aynı sorumluluklar yüklenmiştir.
- B) Kadına sadece annelik rolü layık görülmüştür.
- C) Eşler birbirlerinin günahlarından sorumludurlar.
- D) Kadın ve erkek aynı özden yaratılmıştır.

13. Kadınlar ile ilgili aşağıdakilerden hangisi Hz. Muhammed (sav.) tarafından yasaklanmıştır?

- A) İstekleri dışında evlendirilmeleri
- B) Cemaatle namaz kılmaları
- C) İstişareye katılmaları
- D) İlim tahsil etmeleri

14. Hz. Peygamber eş seçiminde aşağıdaki kıstaslardan hangisini tavsiye etmiştir?

- A) Güzellik
- B) Zenginlik
- C) Dindarlık
- D) Asalet

15. Hz. Peygamber: “Her kim ergenlik çağına kadar iki kız çocuğunun bakımını, nafakasını, terbiye ve yetiştirilmesini üzerine alıp gereğini yerine getirirse o kimse kıyamet gününde (parmaklarını birbirine kavuşturarak) benimle böyle beraber olacaktır.” buyurmuştur.

**Bu hadiste Peygamber Efendimiz aşağıdakilerden hangisini vurgulamıştır?**

- A) Ebeveynlerin ergenlik çağından sonra çocuklarına bakmak zorunda olmadıklarını
- B) Kız çocuklarına sahip çıkılıp güzel bir şekilde eğitilmesini
- C) Hesabı verilemeyecek davranışlardan kaçınılmasını
- D) Cennette Peygamber ile beraber olmanın şartlarını

16. “O müminler öyle kimselerdir ki eğer kendilerine yeryüzünde bir iktidar verirsek namazı dosdoğru kılarlar, zekâtı verirler, marufu (iyi ve güzel şeyleri) emrederler, münkerden (kötü ve çirkin olan şeylerden) vazgeçirmeye çalışırlar...” (Hac suresi, 41. ayet)

**Bu ayette yöneticilerin sahip olması gereken özelliklerden hangisine değinilmemiştir?**

- A) İstişareye önem verme
- B) İbadetleri yerine getirme
- C) İnsanları doğruluğa sevk etme
- D) Kötülüğe engel olmaya çalışma

17. “Allah size, mutlaka emaneti ehli olanlara vermenizi ve insanlar arasında hükmettiğiniz zaman adaletle hükmetmenizi emreder...” (Nisa suresi, 58. ayet)

**Bu ayette aşağıdakilerden hangileri emredilmektedir?**

- A) Bağlılık ve itaat
- B) Sabır ve tevekkül
- C) Sadakat ve emanet
- D) Hakkaniyet ve yeterlilik

18. “Yöneticilerinizin en hayırlısı sizi seven ve sizin tarafınızdan da sevilen, size dua eden sizin de kendisine dua ettiğiniz kimsedir. En kötüsü ise halkını aşağılayıp sevmeyen ve halkı tarafından sevilmeyen, halkına lanet eden ve halkı tarafından lanetlenen kimsedir.”

**Bu hadisten yöneticiler ile ilgili aşağıdakilerden hangisi çıkarılamaz?**

- A) Halkın iyiliğini istemelidirler.
- B) Kibir ve gurura kapılmamalıdır.
- C) Halkın isteklerine kulak vermelidirler.
- D) Halkın her isteğini yerine getirmelidirler.

19. Hz. Peygamber atadığı yöneticilerde aşağıdaki özelliklerden hangisinin bulunmasına önem vermemiştir?

- A) Zengin ve varlıklı olmasına
- B) Sorumluluk sahibi olmasına
- C) İstişareye önem vermesine
- D) Liyakatli olmasına

20. Aşağıdakilerden hangisi yönetilenlerin sorumluluklarından biri değildir?

- A) İnsan haklarına saygılı olmak
- B) Kamu mallarına zarar vermemek
- C) Yöneticinin bütün kararlarına itaat etmek
- D) Huzuru bozucu davranışlardan uzak durmak



## 1. OTURUM

### (608) DEMOKRASİ ve İNS. HAK. – 2

1. Kişilerin bir takım haklara sahip olması bu hakların gerçekleşmesi için başka kişilere ve devlete sorumluluklar yükler. Temiz bir çevrede yaşama hakkının, kişilere çevreyi kirliletmeme sorumluluğunu yüklediği gibi.

**Buna göre aşağıdakilerden hangisi sorumluluğa örnektir?**

- A) Alacaklının alacağını istemesi
- B) İşyeri sahibinin vergisini ödemesi
- C) Liseyi bitiren öğrencinin diplomasını alması
- D) Vatandaşların ülke yönetiminde söz hakkı olması

2. Kişileri devlete ve topluma karşı koruyan hak ve özgürlüklere koruyucu haklar denir.

**Aşağıdakilerden hangisi koruyucu haklardandır?**

- A) Vergi ödevi
- B) Dilekçe hakkı
- C) Kişi dokunulmazlığı
- D) Eğitim ve öğrenim hakkı

3. Hukuk kurallarıyla ilgili verilenlerden hangisi yanlıştır?

- A) Bazı hukuk kuralları emredicidir.
- B) Yorumlayıcı hukuk kuralları vardır.
- C) Hukuk kurallarının bir kısmı tanımlayıcıdır.
- D) Bütün hukuk kuralları emir ve yasaklar içerir.

4. I. Ekonomik kalkınma  
II. Kuvvetler ayırımı  
III. Gelir adaleti ve eşitlik  
IV. Mahkemelerin bağımsızlığı

**Verilenlerden hangileri sosyal devlet olmanın gereklerindendir?**

- A) I ve II
- B) I ve III
- C) II ve III
- D) II ve IV

5. Yargı organının yasama organını denetlemesi aşağıdakilerden hangisiyle gerçekleşir?

- A) Anayasa Mahkemesi
- B) Yargıtay
- C) Sayıştay
- D) Danıştay

6. Aşağıdakilerden hangisi tüzel kişiliğe örnektir?

- A) Türk Demokrasi Vakfı
- B) Öğrenci Mehmet
- C) Öğretmen Ayşe
- D) Vatandaş Ali

7. Aşağıdakilerden hangisi TBMM'nin kullandığı denetim mekanizmalarından değildir?

- A) Soru
- B) Gensoru
- C) Mülakat
- D) Meclis araştırması

8. Aşağıda verilenlerden hangisi demokrasinin temel ilkelerine aykırıdır?

- A) Demokrasi temsil esasına dayanır.
- B) Demokrasi halkın egemenliğine dayanır.
- C) Demokrasi bireysel özgürlüğü korur ve geliştirir.
- D) Demokrasilerde kuvvetler birliği esastır.

9. Ülkemizde seçimlerle ilgili olarak verilen bilgilerden hangisi doğrudur?

- A) Seçimler gizli oy, açık sayım ve döküm esaslarına göre yapılır.
- B) 22 yaşını dolduran her Türk vatandaşı oy kullanabilir.
- C) Seçimlerde kısıtlı oy kullanılır.
- D) Oy kullanmak zorunlu değildir.

10. Üyelerinin düşünce ve menfaatlerini gerçekleştirmek için iktidarı kısmen ya da tamamen elde etmek amacıyla siyasi hayata katılan gruptur.

**Bu tanım aşağıdakilerden hangisine aittir?**

- A) Devlet
- B) Siyasi parti
- C) Çoğulculuk
- D) Seçim sistemi

11. Osmanlı Devleti'nde 1808 yılında imzalanan, pratikte hiç uygulanmasa da padişahın yetkilerini sınırlayan, padişahı belli bir yönde davranmaya zorlayan ilk belge aşağıdakilerden hangisidir?

- A) Nizam-ı Cedit
- B) Sened-i İttifak
- C) Islahat Fermanı
- D) Birinci Meşrutiyet

12. Türkiye Cumhuriyeti Devleti'nde yasaların Anayasaya uygunluğu için yargısal denetim ilk kez hangi Anayasa ile getirilmiştir?

- A) 1921 Anayasası
- B) 1924 Anayasası
- C) 1961 Anayasası
- D) 1982 Anayasası

13. Demokratik yaşam tarzını benimsemiş olan bireylerden aşağıdaki davranışlardan hangisi beklenmez?

- A) Kendi hakları çiğnendiğinde pasif durumda kalması
- B) Kendi gibi düşünmeyenlere saygılı olması
- C) İlgili alanlarına uygun sivil toplum örgütleri içinde yer alması
- D) Ailenin geleceğiyle ilgili kararlarda aile bireylerinin tamamının görüşünün alınması

14. Aşağıdakilerden hangisi uluslararası antlaşmaların niteliklerindendir?

- A) Daha çok tavsiye niteliğindedir.
- B) Taraf devletler için bağlayıcı hükümler içermez.
- C) Sözleşmenin gereğini yapmayan toplumlar için yaptırımlar öngörülmemiştir.
- D) Taraf olan devletler için denetim mekanizması öngörülmemiştir.

15. Dünya barışının sağlanması ve insan hakları ihlallerinin önlenmesi amacıyla 1945 yılında kurulmuş olan örgüt aşağıdakilerden hangisidir?

- A) Avrupa Güvenlik ve İşbirliği Teşkilatı
- B) Avrupa İnsan Hakları Mahkemesi
- C) Avrupa Birliği
- D) Birleşmiş Milletler

## 1. OTURUM

### (611) KARŞ. DİN. TAR. – 1

16. Aşağıdakilerden hangisi ülkemizde kurulan “ulusal” sivil toplum kuruluşlarıdır?

- A) Uluslararası Kızılhaç Komitesi
- B) Uluslararası Af Örgütü
- C) Türk Demokrasi Vakfı
- D) Uluslararası PEN Kulübü

17. Aşağıdakilerden hangisi, insan haklarının korunması konusunda demokrasilerde karşılaşılan sorunlardandır?

- A) Bölgeler arası kalkınmışlık farklarının giderilmesi
- B) Bilim alanındaki gelişmelerin kontrollü kullanımı
- C) Hızlı toplumsal değişimin olumsuz etkilerinin önlenmesi
- D) Uluslararası terörün artması

18. “Bir ülkede belli bir dönemde geçerli olan kuralların zorla ve köklü bir değişikliğe tabi tutularak yerine yenilerinin getirilmesidir.”

Yukarıda tanımı verilen kavram aşağıdakilerden hangisidir?

- A) İnkılap (devrim)
- B) Çağdaşlaşma
- C) Aydınlanma
- D) Reform

19. Çağın ihtiyaçlarına cevap verebilen sürekli gelişmeye ve değişmeye elverişli bir toplum yapısının oluşturulabilmesini öngören Atatürk ilkesi aşağıdakilerden hangisidir?

- A) Laiklik
- B) İnkılapçılık
- C) Cumhuriyetçilik
- D) Milliyetçilik

20. Ülkede yaşayan halkın eşit olması, hiçbir kişi ya da gruba ayrıcalık tanınmaması öncelikle hangi Atatürk ilkesiyle ilgilidir?

- A) Devletçilik
- B) Laiklik
- C) Milliyetçilik
- D) Halkçılık

1. • M.Ö. 15. yüzyılda Filistin’de göçebe olarak yaşayan kabilenin adıdır.
- “Öte tarafın insanları” anlamına gelmektedir. Bununla Fırat ve Ürdün nehirlerinin öte kıyısından gelen göçmenler kastedilmiştir.

Filistin bölgesinde yaşayan yerli halk tarafından Yahudilere verilen bu ad aşağıdakilerden hangisidir?

- A) İbranî
- B) İsrail
- C) Musevi
- D) Kenanî

2. Aşağıdakilerden hangisinin İslam açısından diğer dinleri öğrenmenin faydalarından biri olduğu söylenemez?

- A) İslam dininin diğer dinlerden farkı daha iyi anlaşılır.
- B) İsrailiyat konuları daha iyi anlaşılır.
- C) İtikadî bakımdan müminlerin imanını daha güçlü hâle getirir.
- D) Misyonerlik faaliyetlerine engel olmada önemli katkı sağlar.

3. Aşağıdakilerden hangisi ülkemizde bulunan Hristiyan gruplardan biri değildir?

- A) Rumlar
- B) Yezidiler
- C) Ermeniler
- D) Süryaniler

4. Dini, bir cemaatin meydana gelmesini sağlayan ayin ve inançlar sistemi olarak tarif eden Emil Durkheim bu tarifile dinin hangi yönünü öne çıkarmaktadır?

- A) Psikolojik
- B) Sosyolojik
- C) Felsefi
- D) Pedagojik

5. • Kutsal bir hikâye anlatılır.
- Konusu gerçek olaylardan alınmıştır.
- Meydana gelen hadiseler insanların anlayabileceği mecazi dille ve sembollerle anlatılır.

Bu bilgiler aşağıdakilerden hangisine aittir?

- A) Din
- B) Hikâye
- C) Destan
- D) Mitos

6. İlahi dinlerdeki vahiy geleneği hakkında aşağıda verilen bilgilerden hangisi yanlıştır?

- A) Yahudilere göre Tora, Hz. Musa’ya levhalar hâlinde vahyedilmiştir.
- B) Hristiyanlığın Katolik mezhebi, kilise kurumuna günümüzde de vahyin ilham suretinde gelmeye devam ettiğine inanmaktadır.
- C) Hristiyanlara göre Ahd-i Cedid, Hz. İsa’ya Allah tarafından vahyedilmiştir.
- D) İslam’a göre vahiy, peygamberlerin insanlara iletmek üzere Allah’tan aldığı bilgilerdir.

7. “İsrail” aşağıdaki peygamberlerden hangisinin lakabıdır?

- A) Yahya
- B) Yakup
- C) Davud
- D) Musa

8. Aşağıdakilerden hangisi temel İslam bilimlerinden biri değildir?

- A) Tasavvuf
- B) Tefsir
- C) Fıkıh
- D) Kelam

9. • Firavun’un sarayında büyüdü.
- İsraili birine destek olmak isterken yanlışlıkla bir Mısırlının ölümüne sebep oldu.
- Mısır’ı terkedip Medyen’e gitti ve orada Hz. Şuayb’ın kızıyla evlendi.

Yukarıda hakkında bilgi verilen peygamber kimdir?

- A) Hz. İsa
- B) Hz. Yakup
- C) Hz. Davud
- D) Hz. Musa

10. Yahudi isyanları nedeniyle 70 yılında Kudüs’ü işgal edip, Yahudilerin inşa ettikleri mabedi yıkan devlet aşağıdakilerden hangisidir?

- A) Roma
- B) İran
- C) Babil
- D) Mısır

11. Yahudi tarihinde I. Mabet Dönemi olarak adlandırılan ve Hz. Süleyman’ın inşa ettiğine inanılan Bet-Hamikdaş isimli mabet, İslam geleneğinde hangi isimle anılır?

- A) Beytül-Haram
- B) Beytül-Makdis
- C) Beytül-Hikme
- D) Beytül-Ma’mur

## 1. OTURUM

12. "... Onlar kelimelerin yerlerini değiştirdiler. Kendilerine öğretilen ahkâmın (Tevrat'ın) önemli bir bölümünü unuttular..."  
(Mâide suresi, 13. ayet)

**Verilen ayette aşağıdakilerden hangisi vurgulanmaktadır?**

- A) Tevrat'ın kutsal kitap olduğu  
B) Tevrat'ın Hz. Musa'ya indirildiği  
C) Yahudilerin kutsal kitabı tahrif ettiği  
D) Kur'an-ı Kerim'de Tevrat'la ilgili bilgiler verildiği

13. **İslam dini ile ilgili aşağıda verilen bilgilerden hangisi yanlıştır?**

- A) Bütün peygamberleri hak ve gerçek sayar.  
B) İnsanları doğuştan hür ve günahsız kabul eder.  
C) Peygamberlerde ilahi nitelikler görülebileceğini vurgular.  
D) İnanç esasları ve ibadet ilkeleri Kur'an-ı Kerim'de belirtilmiştir.

14. **Aşağıdakilerden hangisi Yahudilik ve İslam'ın ortak noktalarından biri değildir?**

- A) Sünnet olmak  
B) Domuz eti yememek  
C) İbadethanelerine resim sokmamak  
D) Hz. Muhammed (sav.)'i peygamber olarak kabul etmek

15. **Hristiyan inanç sistemindeki baba-oğul-kutsal ruh üçlemesi hangi kavramla ifade edilir?**

- A) Takdis  
B) Afaroz  
C) Vaftiz  
D) Teslis

16. I. Dini başkanları Papadır.  
II. Dini merkezleri Roma'dır.  
III. Rahiplerin bekârlığı zaruridir.

**Hakkında bilgi verilen Hristiyan mezhebi hangisidir?**

- A) Katolik  
B) Ortodoks  
C) Protestan  
D) Adventistler

17. **Kendine özgü metotlarla, Kur'an ve sünnetten çıkardığı hükümleri düzenleyen ve inceleyen, bunu yaparken de kural koyucunun amacını belirlemeye çalışan ilim dalı aşağıdakilerden hangisidir?**

- A) Hadis  
B) Fıkıh  
C) Tefsir  
D) Kelam

18. İslam, dini tekeline alan ve insanların üzerinde hâkimiyet kuran din adamları sınıfının varlığını tanımaz. İnsanla Allah arasında aracı kabul etmez. Herkes Allah'a doğrudan ulaşabilir. Kişi sahip olduğu doğru inanç ve iyi amel-lerle Allah'ın rızasını kazanır ve kurtulur.

**Bu metinde İslam'ın reddettiği anlayış aşağıdakilerden hangisidir?**

- A) Teslis  
B) Taassup  
C) Ruhbanlık  
D) Asli günah

19. Hinduizm'de dini bir inançtır. Aynı işle meşgul olan, görev ve gelenekleriyle birbirine sınıksız sarılan insanların meydana getirdiği birliktir. Bireyin o anki hayatında çalışarak grubunu değiştirme imkânı yoktur.

**Hakkında bilgi verilen kavram aşağıdakilerden hangisidir?**

- A) Om  
B) Kast  
C) Nirvana  
D) Meditasyon

20. **Aşağıdaki dinlerden hangisi tek tanrı inancıyla ön plana çıkmaktadır?**

- A) Hinduizm  
B) Caynizim  
C) Budizm  
D) Sihizm

### (612) KARŞ. DİN. TAR. – 2

1. **Matta, Markos, Luka ve Yuhanna aşağıdakilerden hangisiyle ilişkilidir?**

- A) Eski Ahit  
B) Tora  
C) Yeni Ahit  
D) Talmut

2. I. Sihizm  
II. Budizm  
III. Yahudilik  
IV. Konfüçyanizm

**Yukarıdakilerden hangileri tek tanrılı inanca sahip dinlerdendir?**

- A) I ve II  
B) II, III ve IV  
C) I, II ve III  
D) I ve III

3. **Gatalar-Avesta aşağıdaki dinlerden hangisinin kutsal kitabıdır?**

- A) Zerdüştlük  
B) Sihizm  
C) Budizm  
D) Şintoizm

4. **Kur'an'ın indirilmeye başlandığı geceye verilen ad aşağıdakilerden hangisidir?**

- A) Berat  
B) Regaib  
C) Kadir  
D) Miraç

5. "Ve Rab Allah yedinci günü mübarek kıldı ve onu takdis etti, çünkü Allah, yaratıp yaptığı bütün işten o günde istirahat etti."

**Yukarıdaki bilgiler hangi kutsal kitaptan alınmıştır?**

- A) Avesta  
B) Tevrat  
C) İncil  
D) Adi-Grant

6. • 15 yaşında kendimi öğrenmeye verdim.  
• 30 yaşında irademe sahip olabildim.  
• 40 yaşında şüphelerden uzaklaştım.  
• 50 yaşında göğün emrini öğrendim.

**Kendisi hakkında yukarıdaki bilgileri veren din kurucusu kimdir?**

- A) Hz. İsa  
B) Konfüçyüs  
C) Zerdüş  
D) Mahavira

## 1. OTURUM

7. Vedalar aşağıdaki dinlerden hangisinin kutsal kitabıdır?

- A) Hinduizm B) Konfüçyanizm  
C) Budizm D) Sihizm

8. Musa b. Meymun aşağıdaki dinlerden hangisine mensup bir din adamıdır?

- A) Yahudilik B) İslamiyet  
C) Hristiyanlık D) Zerdüştlük

9. Kıyametin kopması, ölülerin sur sesiyle kalkması, cismen haşrolma, cennet-cehennem gibi konularda ortak anlayışa sahip iki din aşağıdakilerden hangileridir?

- A) Taoizm - Caynizm  
B) Yahudilik - Budizm  
C) Zerdüştlük - Sihizm  
D) Hristiyanlık - İslamiyet

10. • Çocukluğu ve gençliğinin bir dönemi Firavun'un sarayında geçti.  
• Mısır'ı terk etti, Medyen'de Hz. Şuayb ile görüştü ve onun kızıyla evlendi.  
• Sina Dağı'nda Rabb'inden vahiy aldı.

Burada hakkında bilgi verilen peygamber kimdir?

- A) Hz. Musa  
B) Hz. Davut  
C) Hz. İbrahim  
D) Hz. Süleyman

11. Bu dinin rahipleri hayatları boyunca bitkisel besinlerle beslenirler. Ancak soğan ve sarımsak yemezler. Kuşluk veya zeval vaktinde olmak üzere günde sadece bir öğün yemek yiyebilirler. Arka arkaya kırk gün perhiz yaparlar.

Bir nevi oruç sayılabilecek olan bu ibadetler hangi dine aittir?

- A) Hristiyanlık B) Yahudilik  
C) Caynizm D) Sihizm

12. Üç ilahi dinin de (Yahudilik, Hristiyanlık, İslam) kutsal kabul ettiği mekân aşağıdakilerden hangisidir?

- A) Kudüs B) Mekke  
C) Roma D) Efes

13. "... Siz hayra ne harcarsanız, Allah onun yerine başkasını verir. O rızık verenlerin en hayırlısıdır." (Kur'an-ı Kerim, Sebe' suresi, 39. ayet)

"Kim fakire verirse onun eksigi olmaz; fakat kim ondan göz çevirirse o çok lanet alır." (Kitab-ı Mukaddes, Süleyman'ın Meselleri, 28/27)  
"Sadakan gizlide olsun; gizlide gören baban da sana ödeyecektir." (Kitab-ı Mukaddes, Matta, 6/3)

İlahi dinlerin bu tavsiyelerinden yola çıkarak aşağıdakilerden hangisi söylenebilir?

- A) İbadetleri aynıdır.  
B) İnanç sistemleri tevhitlidir.  
C) İhtiyaç sahiplerine yardım etmek önemlidir.  
D) Yalnızca kendi dinine mensup olan fakirlere yardım edilir.

14. Temizlik bütün dinlerin ortak ahlaki ilkelerinden biridir. Kötü duygu, düşünce ve davranışlar manevi kirliliği ifade etmektedir.

Aşağıdakilerden hangisi manevi temizlik ile ilgili değildir?

- A) Hayır ve hasenat  
B) Ağız ve diş temizliği  
C) Tövbe ve pişmanlık  
D) Kutsal mekânları ziyaret

15. Aşağıda verilen dinler ve ibadet mekânları eşleştirmelerinden hangisi yanlıştır?

- A) Hinduizm - Sinagog  
B) Hristiyanlık - Kilise  
C) Yahudilik - Havra  
D) İslamiyet - Cami

16. Her dinin kutsal gün, gece ve bayramları vardır. İlahî dinlerde bu kutsallık ya doğrudan dinin bir emri gereği yapılır ya da peygamberlerin hayatında doğum, hicret ve vefat ... gibi bazı dönüm noktalarını ifade eder.

Bu açıklamaya göre aşağıda verilen kutsal gün ve gecelerden hangisi Hz. Muhammed (s.a.v.)'in hayatıyla doğrudan ilgili değildir?

- A) Mevlit kandili  
B) Berat kandili  
C) Miraç kandili  
D) Kadir gecesi

17. Aşağıdakilerden hangisi ilahi dinler tarafından hoşgörülen bir davranıştır?

- A) Zina yapmak  
B) Cana kıymak  
C) Saygı göstermek  
D) Hırsızlık yapmak

18. "Ey İman edenler! Sadaka verdiğiniz kimselere başa kakmak, incitmek suretiyle o sadakalarınızı boşa çıkarmayın. Allah'a ve ahiret gününe inanmadığı halde sırf insanlara gösteriş yapmak için malını harcayan kimsenin durumuna düşmeyin..." (Bakara suresi, 264. ayet)

Verilen ayetten aşağıdakilerden hangisi çıkarılamaz?

- A) Yardımlar sırf Allah rızası için yapılmalıdır.  
B) Yapılan iyilikler dile getirilmemelidir.  
C) Gösteriş için harcanan malın Allah katında değeri yoktur.  
D) Sadakalar gizli verilmek zorunludur.

## 1. OTURUM

19. "Sizin dininiz size, benim dinim banadır." (Kâfirûn suresi, 6. ayet) "Allah'tan başkasına tapanlara (ve putlarına) sövmeyin; sonra onlar da bilmeyerek Allah'a söverler." (En'am suresi, 108. ayet)

**Verilen ayetlere göre aşağıdaki-lerden hangisi söylenemez?**

- A) Farklı inançlara sahip insanlara saygı duyulmalıdır.
- B) İnsanlar dini tercihlerinde özgürdürler.
- C) Dini inançları başka insanlara tebliğ etmeye gerek yoktur.
- D) Kimsenin düşünce ve inancına hakaret edilmemelidir.

20. **Aşağıdakilerden hangisi misyonerlerin kullandıkları yöntemlerden biri değildir?**

- A) Kilise evleri açmak
- B) Özel okullar aracılığıyla eğitim vermek
- C) Konuşmalarında sevgiyi ön plana çıkarmak
- D) Tarihi cami ve medreselere gezi turları düzenlemek

### (811) KELAM – 1

1. **Ameli, imanın bir parçası olarak gören mezhep aşağıdakilerden hangisidir?**

- A) Mutezile
- B) Maturidiye
- C) Mürcie
- D) Eş'ariye

2. **Aşağıdakilerden hangisi ilk dönem kelimelerinden değildir?**

- A) Vasıl b. Ata
- B) İbrahim Nazzam
- C) Cürcanî
- D) Ebu Huzeyl

3. "Lâ hükme illâ lillah" (Allah'tan başka hüküm verecek yoktur; hüküm ancak Allah'a aittir.) ifadesi **hangi itikadî mezhebin görüşlerinin temelini oluşturmuştur?**

- A) Şia
- B) Mutezile
- C) Haricilik
- D) Murcie

4. **Kelam ilminde yoktan var edilen varlıklar hangi kavramla ifade edilir?**

- A) Vacip
- B) Hâdis
- C) Cevher
- D) Âraz

5. **Müteahhirin kelamcıları tarafından kullanılan "Kıyâsü'l - gaib ale's - şâhid" yöntemi ile aşağıdakilerden hangisi kastedilir?**

- A) Genel ilkelerden özel ilkeler çıkarma
- B) Delilin geçersizliği ile konunun da geçersiz olması
- C) İhtimalleri tartışma
- D) Duyu ötesini duyular alemi ile karşılaştırma

6. **Şiîliği diğer mezheplerden ayıran en önemli görüş aşağıdakilerden hangisidir?**

- A) İmanın tanımı
- B) İnsan hürriyeti
- C) İmamet meselesi
- D) Büyük günah işleyenlerin durumu

7. **Aşağıdakilerden hangisinin Mürcie'nin doğuşunda etkili olduğu söylenemez?**

- A) Haricilerin aşırı fikirleri
- B) Müslüman olmayan milletlerin eleştirilerine karşı İslam'ı savunma isteği
- C) Emevî - Haşimî çekişmesi
- D) İslam toplumunun birliğini koruma ihtiyacı

8. **Aşağıdakilerden hangisi kelam ve felsefenin ortak bilgi kaynağıdır?**

- A) Vahiy
- B) Beş duyu organı
- C) Mütevatir Haber
- D) İlham ve sezgi

9. **Aşağıdakilerden hangisi Alevi - Bektaşî kültüründeki Dört Kapı'dan biri değildir?**

- A) Şeriat
- B) Tarikat
- C) Marifet
- D) Şehadet

10. **Mutezile'ye ait "Büyük günah işleyen bir kimsenin ne kafir ne de mümin olduğu, bu ikisi arasında bir yerde bulunduğu"nu ifade eden ilke aşağıdakilerden hangisidir?**

- A) el - Menziletu beyne'l - menzileteyn
- B) el - Emri bi'l - Ma'rûf ve'n - Nehyi ani'l - Münker
- C) el - Va'd ve'l - Va'îd
- D) Adalet

11. "el - İbane an Usuli'd - Diyane" ve "el - Luma" isimli eserler aşağıdaki kelamcılardan hangisine aittir?

- A) İmam Maturidî
- B) İmam Eş'arî
- C) İmam Gazali
- D) İmam Beyzavî

12. Evrendeki var olan her şeyde bir eksiklik, bir zayıflık vardır. Bütün bu var olanlar, eksikliklerini tamamlama doğrultusunda, yani olgunluğa doğru hareket etmektedirler. Bu olgunluk ve yetkinlik özlemi, üstün bir varlığa ulaşma arzusu göstermektedir. Bizde mevcut olan bu Yüce Varlık düşüncesi, Allah'ın varlığına bir delildir.

**Bu parçada Allah'ın varlığı ve birliğinin delillerinden hangisi söz konusudur?**

- A) Hudus
- B) İmkân
- C) Kemâl
- D) Temanu'

13. **Alevi-Bektaşî kültüründe "Müsahtiplik Cemi" hangi anlama gelmektedir?**

- A) Ölen kimse için yedisi veya kırkında kurban kesilip lokma dağıtılmasıdır.
- B) Yol kardeşi olmak isteyen iki ailenin kurban keserek kardeşliğe söz vermeleridir.
- C) Taliplerin bir yıl içerisinde dedeye verdikleri söze bağlılıklarının sorgulanmasıdır.
- D) Kişinin işlediği suç nedeni ile tövbe edip kul hakkını iade etmesidir.

## 1. OTURUM

14. Aşağıdakilerden hangisi "tasdik" kelimesinin anlamlarından biri değildir?

- A) Bağlanmak
- B) Kabul etmek
- C) Doğrulamak
- D) Tereddüt etmek

15. Aşağıdakilerden hangisi kelimelerin kullandığı bir yöntemdir?

- A) Tümevarım ve temsil
- B) Hipotez ve tahmin
- C) Analiz ve gözlem
- D) Beyin fırtınası ve sonuç çıkarma

16. Mutezile mezhebinin "el-Va'd ve'l-Va'id" ilkesi aşağıdakilerden hangisi ile ilgilidir?

- A) İyiliği emredip kötülüklerden sakındırma
- B) Büyük günah işleyen kimse- nin ne Müslüman ne de kâfir olması
- C) İnsanın dünyadaki davranış- larının karşılığını ahirette gör- mesi
- D) İnsanın hür ve sorumlu bir varlık olduğunun açıkça belir- tilmesi

17. Aşağıdakilerden hangisi Allah'ın zati sıfatlarından biri değildir?

- A) Vücut
- B) Kıdem
- C) Bekâ
- D) Hayat

18. Yüce Allah'ın sonsuz güç sahibi olmasıdır. O'nun gücünün yetme- yeceği hiçbir şey yoktur. O son- suz gücü ile âlemde adaletine uy- gun olarak tasarrufta bulunabilir.

Tanımı verilen Allah'ın subûti sı- fatı aşağıdakilerden hangisidir?

- A) Kudret
- B) Tekvin
- C) Basar
- D) Kelam

19. Allah'ın "Samed" isminin anla- mını aşağıdakilerden hangisidir?

- A) Günahları yargılayan, örten ve çok mağfiret eden
- B) Herkesin kendine muhtaç ol- duğu, kendisinin kimseye muh- taç olmadığı
- C) Seven ve sevilen, iyiliği seven, iyilik edene ihsan eden, sevgi- ye layık olan
- D) Hilm ile muamele eden, ceza- da acele etmeyen, yumuşak davranan

20. Allah zat ve sıfatı ile sonradan yaratılmış olan hiçbir şeye ben- zemez.

Bu tanım Allah'ın sıfatlarından hangisine aittir?

- A) Kıdem
- B) Vahdaniyet
- C) Kıyam binefsihi
- D) Muhalefetü'n li'l-Havâdis

### (812) KELAM – 2

1. "Ba'sü ba'de'l - mevt" ifadesinin anlamı aşağıdakilerden hangi- sidir?

- A) Kıyametin ansızın kopması
- B) Öldükten sonra yeniden dirilme
- C) Hesap vermek üzere mahşer yerinde toplanma
- D) Amel defterinin sağdan verilmesi

2. Aşağıdakilerden hangisi Yeni İlm-i Kelam Dönemi âlimlerimizden biri değildir?

- A) Ömer Nasuhi Bilmen
- B) Muhammed Abduh
- C) İzmirli İsmail Hakkı
- D) İmam Gazali

3. Aşağıdakilerden hangisi muciz- zenin bir özelliğidir?

- A) İnkârcıları aciz bırakması
- B) Akıl ile izah edilebilir olması
- C) Tekrar edilebilir olması
- D) Peygamberlere ait bir kabiliyet olması

4. "Allah, peygamberlik vereceği kimseyi daha iyi bilir..." (En'am suresi, 124. ayet)

Bu ayete göre aşağıdakilerden hangisi doğrudur?

- A) Allah, peygamber göndererek insanlara merhamet etmiştir.
- B) Peygamberler de bizim gibi bir beşerdir.
- C) Peygamber gönderilmeyen hiçbir millet yoktur.
- D) Peygamberlik, çalışıp kazan- makla elde edilmez.

5. "Ahd-i Atik" hangi peygambere gönderilmiştir?

- A) Hz. İsa
- B) Hz. İbrahim
- C) Hz. Musa
- D) Hz. Âdem

6. Aşağıdakilerden hangisi dört İncil'den biri değildir?

- A) Matta
- B) Markos
- C) Zebur
- D) Yuhanna

7. Hz. Muhammed'in örnek ahlakı ile ilgili aşağıda verilenlerden hangisi özellikle devlet yöneti- minde dikkate alınmalıdır?

- A) Ailesi ile iyi geçinmesi
- B) Danışarak iş yapması
- C) Cesur olması
- D) Merhametli olması

8. "Kıyamet gününe ve pişmanlık duyan nefse yemin ederim ki, insanlar öldükten sonra diriltile- ceklerdir. İnsan, kemiklerini bir araya toplayamayız mı sanıyor? Evet, Biz onu parmak uçlarına varıncaya kadar bütün incelikleri ile yeniden yapmaya kadiriz." (Kıyâmet suresi, 1- 4. ayetler)

Bu ayette aşağıdakilerden han- gisine vurgu yapılmıştır?

- A) Kıyametin bir gün kopacağına
- B) Her insanın hesap vereceğine
- C) Hayatın gayesiz ve boş yere yaratılmadığına
- D) Yeniden dirilişin hem bedenen hem de ruhen olacağına

## 1. OTURUM

9. İnsanların tüm amelleri Allah tarafından bilinmektedir. Bu yüzden de amellerin tartılmasının anlamı ve faydası yoktur. Mizan ile kastedilen de adalettir.

**Bu görüş hangi itikadî mezhebe aittir?**

- A) Mutezile B) Maturidiyye  
C) Eş'ariyye D) Mürcie

10. Aşağıdakilerden hangisi Kur'an ve hadislerde yer alan cennet isimlerinden biri değildir?

- A) Dârüsselâm  
B) Karâr  
C) Saîr  
D) Me'va

11. Ahiret inancına sahip bir kişiden aşağıdaki davranışlardan hangisini yapması beklenmez?

- A) İbadetlerini hakkıyla yerine getirmeye çalışır.  
B) Boşa yaratılmadığı bilinci ile hareket eder.  
C) İnsani ilişkilerini menfaat üzerine kurar.  
D) İlişkilerinde adaleti ön planda tutar.

12. Aşağıdakilerden hangisi "cüz-i irade" kapsamındadır?

- A) Anne-baba seçimi  
B) İnanç tercihi  
C) Cinsiyet  
D) İrk

13. "İnsanı doğru ve hak yola ulaştırmak" anlamını ifade eden kavram aşağıdakilerden hangisidir?

- A) Dalalet B) Hidayet  
C) Rahmet D) Fazilet

14. • İnsan hür bir iradeye sahip değildir.  
• Kul, Allah'ın takdir ettiği fiilleri yapmak zorundadır.

**Bu görüşler aşağıdaki mezheplerden hangisine aittir?**

- A) Mutezile B) Selefiyye  
C) Cebriye D) Maturidiye

15. Sezgi gücü ile Tanrı'ya ve eşyanın özü ile ilgili bilgiye ulaşabileceğini savunan akım aşağıdakilerden hangisidir?

- A) Mistisizm B) Politeizm  
C) Deizm D) Agnostisizm

16. Aşağıdaki felsefi görüşlerden hangisi Allah'ı, ruhu ve ahiret hayatını inkâr edip evrenin tesadüfen meydana geldiği görüşünü savunur?

- A) Nihilizm B) Ateizm  
C) Satanizm D) Deizm

17. Ruhun, beden ölümünden sonra başka bir bedenle dünyaya tekrar geldiğine inanıldığı inanç biçimi aşağıdakilerden hangisidir?

- A) Ahiret B) Nirvana  
C) Meditasyon D) Tenasüh

18. Belli bir amaca ulaşmak için gerekli olan her türlü çalışmayı yapıp önlemi aldıktan sonra sonucu Allah'a havale etme anlamına gelen kavram aşağıdakilerden hangisidir?

- A) Rızık B) Ecel  
C) Tevekkül D) Kaza

19. İnsanın tercihinde tam anlamıyla özgür olduğunu, Allah'ın kötüyü irade etmediğini ve insanın kendi fiilini yaratma konusunda tam bir güce sahip olduğunu savunan mezhep aşağıdakilerden hangisidir?

- A) Mutezile B) Maturidiye  
C) Eşariyye D) Cebriye

20. Peygamberler, küçük-büyük günah işlemekten korunmuşlardır. Ancak onların insan olmalarının gereği bazı hataları da olmuştur.

**Peygamberlerin söz konusu hataları aşağıdaki kavramlardan hangisi ile ifade edilir?**

- A) Nisyan B) İsmet  
C) İstidrac D) Zelle

**TEST BİTTİ.  
CEVAPLARINIZI KONTROL EDİNİZ.**

### SINAV SÜRESİNCE UYULACAK KURALLAR

- 1. Adaylar, sınav kurallarına ve salon görevlilerinin tüm uyarılarına uymak zorundadır. Kurallara ve uyarılara uymayan adayların sınavları geçersiz sayılacaktır.**
- 2. Sınav başladıktan sonra adayların salon görevlileri ve birbirleri ile konuşmaları; kalem, silgi vb. şeyleri istemeleri yasaktır.**
- 3. Adaylar sınav süresince, sınav giriş belgesi ile kimlik belgelerinden birini (nüfus cüzdanı, pasaport veya sürücü belgesi) masalarının üzerinde bulundurmamak zorundadır.**
- 4. Sınav evraklarını teslim etmeyen, soru kitapçıklarının sayfalarından bir kısmını eksik teslim edenlerin sınavları geçersiz sayılacaktır.**

### SALON GÖREVLİLERİNCE SINAV BAŞLAMADAN ÖNCE ADAYLARA YAPILACAK SON UYARILAR

- Soracağınız bir şey varsa şimdi sorunuz, sınav başladıktan sonra sorularınıza cevap verilmeyecektir.
- Başlama zilini bekleyiniz.

Hepinize başarılar dileriz.

(Salon başkanı başlama ve bitiş saatini tahtaya yazacaktır.)

**Bu kitapçığın her hakkı saklıdır. Hangi amaçla olursa olsun, kitapçığın tamamının veya bir kısmının Millî Eğitim Bakanlığı Ölçme, Değerlendirme ve Sınav Hizmetleri Genel Müdürlüğünün yazılı izni olmadan kopya edilmesi, fotoğraflarının çekilmesi, bilgisayar ortamına alınması, herhangi bir yolla çoğaltılması, yayımlanması veya başka bir amaçla kullanılması yasaktır. Bu yasağa uymayanlar, doğabilecek cezai sorumluluğu ve kitapçığın hazırlanmasındaki mali külfeti peşinen kabullenmiş sayılır.**



**02 EKİM 2016 TARİHİNDE YAPILAN AÇIKÖĞRETİM LİSESİ / MESLEKİ AÇIKÖĞRETİM LİSESİ  
2015-2016 ÖĞRETİM YILI EK SINAVI 1. OTURUM T KİTAPÇIĞI CEVAP ANAHTARI**

DİN KÜL. AHL. BİL. – 5	DİN KÜL. AHL. BİL. – 7	FELSEFE – 1	TARİH – 1
1. A	1. B	1. D	1. B
2. D	2. A	2. D	2. C
3. C	3. B	3. C	3. A
4. C	4. D	4. B	4. B
5. B	5. C	5. C	5. D
6. B	6. D	6. A	6. C
7. A	7. C	7. B	7. B
8. A	8. C	8. C	8. C
9. C	9. B	9. B	9. A
10. D	10. A	10. A	10. D
11. B	11. D	11. D	11. A
12. B	12. B	12. B	12. A
13. D	13. D	13. A	13. C
14. A	14. A	14. C	14. B
15. B	15. C	15. A	15. D
16. D	16. D	16. D	16. C
17. C	17. A	17. D	17. D
18. D	18. C	18. B	18. A
19. B	19. C	19. C	19. D
20. C	20. B	20. B	20. C

DİN KÜL. AHL. BİL. – 6	DİN KÜL. AHL. BİL. – 8	FELSEFE – 2	TARİH – 2
1. C	1. D	1. A	1. B
2. A	2. B	2. C	2. A
3. B	3. C	3. B	3. A
4. B	4. D	4. C	4. C
5. C	5. A	5. D	5. D
6. C	6. D	6. A	6. D
7. A	7. B	7. C	7. A
8. D	8. B	8. D	8. B
9. B	9. A	9. B	9. C
10. B	10. C	10. C	10. C
11. C	11. B	11. C	11. D
12. C	12. C	12. B	12. B
13. A	13. A	13. A	13. A
14. D	14. A	14. D	14. B
15. D	15. B	15. B	15. D
16. B	16. B	16. D	16. C
17. B	17. A	17. A	17. D
18. A	18. D	18. B	18. B
19. D	19. C	19. C	19. C
20. A	20. A	20. D	20. D

02 EKİM 2016 TARİHİNDE YAPILAN AÇIKÖĞRETİM LİSESİ / MESLEKİ AÇIKÖĞRETİM LİSESİ  
2015-2016 ÖĞRETİM YILI EK SINAVI 1. OTURUM T KİTAPÇIĞI CEVAP ANAHTARI

TARİH – 3	TARİH – 5	T.C. İNK. TAR. ATA. – 1	COĞRAFYA – 3
1. A	1. C	1. D	1. C
2. B	2. A	2. C	2. B
3. C	3. B	3. A	3. D
4. D	4. A	4. D	4. D
5. A	5. C	5. C	5. A
6. A	6. B	6. C	6. C
7. D	7. C	7. D	7. B
8. D	8. D	8. B	8. B
9. A	9. B	9. D	9. C
10. B	10. C	10. D	10. D
11. C	11. D	11. A	11. A
12. A	12. C	12. B	12. A
13. B	13. A	13. C	13. B
14. C	14. B	14. A	14. A
15. A	15. C	15. D	15. B
16. D	16. A	16. B	16. C
17. C	17. D	17. A	17. D
18. B	18. B	18. D	18. A
19. C	19. C	19. B	19. A
20. D	20. D	20. C	20. D

TARİH – 4	TARİH – 6	T.C. İNK. TAR. ATA. – 2	COĞRAFYA – 4
1. B	1. D	1. B	1. B
2. A	2. A	2. A	2. C
3. C	3. D	3. D	3. B
4. D	4. C	4. B	4. A
5. A	5. A	5. D	5. C
6. A	6. D	6. C	6. D
7. D	7. A	7. A	7. D
8. A	8. D	8. D	8. A
9. B	9. B	9. B	9. B
10. D	10. C	10. C	10. D
11. A	11. D	11. A	11. C
12. C	12. A	12. D	12. D
13. B	13. C	13. C	13. A
14. D	14. D	14. B	14. A
15. A	15. B	15. A	15. C
16. D	16. C	16. C	16. B
17. C	17. B	17. A	17. B
18. B	18. A	18. B	18. A
19. B	19. B	19. A	19. C
20. A	20. C	20. C	20. D

02 EKİM 2016 TARİHİNDE YAPILAN AÇIKÖĞRETİM LİSESİ / MESLEKİ AÇIKÖĞRETİM LİSESİ  
2015-2016 ÖĞRETİM YILI EK SINAVI 1. OTURUM T KİTAPÇIĞI CEVAP ANAHTARI

COĞRAFYA – 5

1. B
2. C
3. A
4. D
5. D
6. A
7. C
8. B
9. C
10. A
11. C
12. A
13. B
14. D
15. D
16. B
17. C
18. A
19. D
20. B

COĞRAFYA – 7

1. B
2. A
3. B
4. D
5. B
6. A
7. C
8. C
9. D
10. C
11. D
12. C
13. A
14. D
15. B
16. A
17. D
18. C
19. B
20. A

MATEMATİK – 3

1. B
2. D
3. C
4. B
5. A
6. B
7. D
8. C
9. A
10. C
11. D
12. A
13. A
14. B
15. D
16. D
17. B
18. B
19. C
20. A

PSİKOLOJİ – 1

1. A
2. B
3. D
4. B
5. C
6. A
7. B
8. A
9. D
10. C
11. C
12. A
13. D
14. C
15. D
16. C
17. B
18. A
19. D
20. B

COĞRAFYA – 6

1. A
2. B
3. D
4. A
5. C
6. B
7. D
8. A
9. B
10. D
11. C
12. A
13. B
14. D
15. B
16. C
17. D
18. A
19. B
20. C

COĞRAFYA – 8

1. A
2. D
3. C
4. A
5. D
6. B
7. C
8. B
9. D
10. D
11. A
12. C
13. B
14. B
15. A
16. A
17. B
18. D
19. C
20. C

MATEMATİK – 4

1. A
2. B
3. A
4. B
5. D
6. B
7. D
8. A
9. C
10. A
11. D
12. C
13. D
14. C
15. B
16. A
17. B
18. D
19. C
20. D

SOSYOLOJİ – 2

1. A
2. B
3. C
4. B
5. A
6. C
7. D
8. A
9. D
10. D
11. C
12. D
13. B
14. C
15. B
16. A
17. B
18. B
19. C
20. D

02 EKİM 2016 TARİHİNDE YAPILAN AÇIKÖĞRETİM LİSESİ / MESLEKİ AÇIKÖĞRETİM LİSESİ  
2015-2016 ÖĞRETİM YILI EK SINAVI 1. OTURUM T KİTAPÇIĞI CEVAP ANAHTARI

İNGİLİZCE – 3

1. A
2. B
3. D
4. A
5. C
6. A
7. B
8. B
9. A
10. A
11. B
12. D
13. A
14. C
15. D
16. A
17. B
18. C
19. D
20. C

FRANSIZCA – 3

1. A
2. D
3. B
4. B
5. C
6. B
7. A
8. C
9. D
10. A
11. B
12. D
13. C
14. D
15. C
16. A
17. D
18. B
19. A
20. C

ALMANCA – 4

1. C
2. D
3. A
4. B
5. D
6. C
7. B
8. D
9. C
10. A
11. B
12. A
13. A
14. D
15. A
16. B
17. C
18. B
19. D
20. C

İNGİLİZCE – 5

1. C
2. B
3. B
4. C
5. D
6. A
7. C
8. A
9. A
10. D
11. B
12. A
13. B
14. A
15. C
16. D
17. D
18. B
19. B
20. A

ALMANCA – 3

1. C
2. A
3. B
4. D
5. B
6. A
7. B
8. C
9. D
10. B
11. A
12. C
13. D
14. D
15. B
16. A
17. C
18. A
19. D
20. C

İNGİLİZCE – 4

1. B
2. C
3. D
4. B
5. A
6. C
7. B
8. B
9. C
10. C
11. A
12. B
13. D
14. C
15. A
16. B
17. C
18. D
19. A
20. D

FRANSIZCA – 4

1. C
2. B
3. B
4. C
5. B
6. A
7. D
8. C
9. D
10. C
11. B
12. A
13. B
14. A
15. C
16. D
17. A
18. D
19. A
20. D

ALMANCA – 5

1. D
2. B
3. B
4. C
5. C
6. D
7. A
8. B
9. B
10. C
11. A
12. D
13. A
14. D
15. B
16. D
17. A
18. C
19. A
20. C

02 EKİM 2016 TARİHİNDE YAPILAN AÇIKÖĞRETİM LİSESİ / MESLEKİ AÇIKÖĞRETİM LİSESİ  
2015-2016 ÖĞRETİM YILI EK SINAVI 1. OTURUM T KİTAPÇIĞI CEVAP ANAHTARI

FRANSIZCA – 5

1. D
2. A
3. B
4. D
5. C
6. A
7. B
8. C
9. D
10. C
11. B
12. A
13. C
14. D
15. A
16. C
17. B
18. B
19. A
20. D

DİL VE ANLATIM – 4

1. D
2. B
3. C
4. C
5. D
6. D
7. B
8. A
9. A
10. B
11. D
12. A
13. B
14. C
15. B
16. B
17. D
18. C
19. B
20. A

DİL VE ANLATIM – 6

1. B
2. D
3. D
4. A
5. C
6. D
7. A
8. C
9. B
10. C
11. B
12. B
13. D
14. B
15. A
16. D
17. A
18. C
19. A
20. B

DİL VE ANLATIM – 8

1. C
2. D
3. A
4. D
5. B
6. C
7. B
8. C
9. A
10. C
11. B
12. A
13. B
14. D
15. B
16. D
17. C
18. C
19. B
20. A

DİL VE ANLATIM – 3

1. B
2. D
3. B
4. D
5. A
6. C
7. C
8. D
9. C
10. A
11. B
12. C
13. B
14. D
15. A
16. D
17. C
18. A
19. C
20. D

DİL VE ANLATIM – 5

1. D
2. C
3. A
4. D
5. D
6. B
7. A
8. B
9. C
10. D
11. C
12. C
13. D
14. B
15. B
16. C
17. A
18. A
19. B
20. B

DİL VE ANLATIM – 7

1. C
2. B
3. D
4. C
5. A
6. A
7. D
8. A
9. C
10. C
11. D
12. C
13. B
14. A
15. D
16. C
17. A
18. B
19. C
20. B

TÜRK EDEBİYATI – 3

1. D
2. C
3. C
4. A
5. A
6. D
7. C
8. D
9. A
10. B
11. C
12. B
13. B
14. A
15. B
16. B
17. D
18. B
19. C
20. D

02 EKİM 2016 TARİHİNDE YAPILAN AÇIKÖĞRETİM LİSESİ / MESLEKİ AÇIKÖĞRETİM LİSESİ  
2015-2016 ÖĞRETİM YILI EK SINAVI 1. OTURUM T KİTAPÇIĞI CEVAP ANAHTARI

TÜRK EDEBİYATI – 4

1. C
2. D
3. C
4. A
5. B
6. D
7. B
8. B
9. A
10. C
11. A
12. C
13. D
14. A
15. D
16. A
17. D
18. B
19. A
20. D

TÜRK EDEBİYATI – 6

1. D
2. C
3. B
4. D
5. D
6. C
7. B
8. A
9. A
10. B
11. B
12. A
13. C
14. D
15. B
16. A
17. B
18. C
19. A
20. D

TÜRK EDEBİYATI – 8

1. D
2. C
3. A
4. B
5. C
6. B
7. D
8. A
9. A
10. C
11. C
12. B
13. D
14. D
15. C
16. C
17. A
18. C
19. D
20. A

KİMYA – 2

1. B
2. A
3. B
4. D
5. B
6. B
7. A
8. C
9. D
10. C
11. D
12. A
13. A
14. D
15. B
16. A
17. C
18. B
19. B
20. D

TÜRK EDEBİYATI – 5

1. D
2. D
3. C
4. B
5. A
6. C
7. A
8. A
9. D
10. B
11. A
12. D
13. C
14. B
15. B
16. C
17. A
18. D
19. B
20. A

TÜRK EDEBİYATI – 7

1. D
2. B
3. C
4. B
5. A
6. A
7. D
8. A
9. C
10. B
11. C
12. B
13. C
14. C
15. D
16. A
17. A
18. D
19. B
20. B

KİMYA – 1

1. C
2. C
3. D
4. B
5. A
6. B
7. D
8. D
9. A
10. C
11. A
12. D
13. B
14. A
15. D
16. B
17. A
18. B
19. D
20. C

BİYOLOJİ – 1

1. D
2. C
3. B
4. C
5. A
6. B
7. B
8. C
9. D
10. B
11. A
12. C
13. D
14. A
15. B
16. A
17. D
18. D
19. C
20. A

**02 EKİM 2016 TARİHİNDE YAPILAN AÇIKÖĞRETİM LİSESİ / MESLEKİ AÇIKÖĞRETİM LİSESİ  
2015-2016 ÖĞRETİM YILI EK SINAVI 1. OTURUM T KİTAPÇIĞI CEVAP ANAHTARI**

**BİYOLOJİ – 2**

1. B
2. B
3. A
4. C
5. A
6. D
7. B
8. B
9. A
10. D
11. D
12. A
13. C
14. C
15. D
16. D
17. B
18. A
19. C
20. C

**TEMEL DİNİ BİL. – 1**

1. A
2. D
3. D
4. C
5. B
6. D
7. A
8. C
9. B
10. B
11. C
12. A
13. A
14. B
15. D
16. B
17. D
18. C
19. A
20. D

**MANTIK – 1**

1. D
2. C
3. A
4. A
5. B
6. C
7. A
8. B
9. C
10. D
11. B
12. D
13. A
14. C
15. B
16. D
17. D
18. A
19. B
20. A

**SAĞLIK BİLGİSİ – 2**

1. B
2. C
3. D
4. A
5. C
6. B
7. B
8. A
9. C
10. D
11. D
12. A
13. B
14. C
15. D
16. A
17. D
18. C
19. B
20. D

**Ç. TÜRK ve DÜNYA TAR.– 2**

- 1.
- 2.
- 3.
- 4.
- 5.
- 6.
- 7.
- 8.
- 9.
- 10.
- 11.
- 12.
- 13.
- 14.
- 15.
- 16.
- 17.
- 18.
- 19.
- 20.

**TEMEL DİNİ BİL. – 2**

1. D
2. C
3. A
4. D
5. B
6. A
7. C
8. D
9. B
10. B
11. D
12. C
13. D
14. B
15. A
16. C
17. A
18. B
19. D
20. A

**SAĞLIK BİLGİSİ – 1**

1. A
2. D
3. A
4. D
5. A
6. D
7. C
8. B
9. B
10. D
11. B
12. C
13. A
14. C
15. B
16. D
17. C
18. A
19. C
20. B

**TRAF. VE İLK YARD. – 1**

1. A
2. D
3. B
4. C
5. B
6. A
7. D
8. B
9. D
10. A
11. B
12. C
13. D
14. A
15. C
16. D
17. C
18. A
19. C
20. B

02 EKİM 2016 TARİHİNDE YAPILAN AÇIKÖĞRETİM LİSESİ / MESLEKİ AÇIKÖĞRETİM LİSESİ  
2015-2016 ÖĞRETİM YILI EK SINAVI 1. OTURUM T KİTAPÇIĞI CEVAP ANAHTARI

TRAF. VE İLK YARD. – 2

1. B
2. C
3. D
4. A
5. D
6. A
7. B
8. A
9. C
10. B
11. D
12. B
13. B
14. C
15. C
16. A
17. D
18. B
19. C
20. A

ALMANCA – 6

1. A
2. C
3. D
4. C
5. C
6. A
7. B
8. D
9. D
10. B
11. C
12. B
13. D
14. B
15. C
16. B
17. A
18. A
19. D
20. A

İNGİLİZCE – 7

1. D
2. B
3. D
4. A
5. B
6. D
7. D
8. C
9. B
10. C
11. A
12. A
13. D
14. C
15. B
16. B
17. A
18. C
19. D
20. A

FRANSIZCA – 7

1. B
2. C
3. D
4. A
5. C
6. B
7. A
8. B
9. C
10. C
11. B
12. A
13. D
14. B
15. C
16. A
17. C
18. D
19. B
20. A

İNGİLİZCE – 6

1. C
2. D
3. D
4. A
5. C
6. A
7. D
8. C
9. B
10. D
11. C
12. D
13. A
14. B
15. D
16. C
17. A
18. B
19. A
20. B

FRANSIZCA – 6

1. A
2. D
3. A
4. C
5. B
6. D
7. B
8. C
9. A
10. C
11. D
12. B
13. A
14. C
15. A
16. D
17. B
18. C
19. D
20. B

ALMANCA – 7

1. D
2. D
3. C
4. A
5. C
6. C
7. A
8. B
9. D
10. B
11. A
12. C
13. B
14. A
15. B
16. D
17. B
18. D
19. A
20. C

İNGİLİZCE – 8

1. A
2. D
3. A
4. B
5. D
6. B
7. A
8. D
9. C
10. B
11. C
12. D
13. C
14. A
15. D
16. A
17. D
18. B
19. B
20. C



02 EKİM 2016 TARİHİNDE YAPILAN AÇIKÖĞRETİM LİSESİ / MESLEKİ AÇIKÖĞRETİM LİSESİ  
2015-2016 ÖĞRETİM YILI EK SINAVI 1. OTURUM T KİTAPÇIĞI CEVAP ANAHTARI

ALMANCA – 8

1. C
2. B
3. B
4. D
5. C
6. A
7. C
8. A
9. C
10. D
11. B
12. A
13. B
14. D
15. D
16. B
17. C
18. A
19. A
20. D

HZ. MUHAMMED'İN HAY. – 3

1. C
2. B
3. D
4. A
5. B
6. A
7. D
8. C
9. B
10. D
11. C
12. A
13. B
14. A
15. C
16. D
17. B
18. D
19. B
20. A

DEMOKRASİ ve İNS. HAK. – 2

1. B
2. C
3. D
4. B
5. A
6. A
7. C
8. D
9. A
10. B
11. B
12. C
13. A
14. C
15. D
16. C
17. D
18. A
19. B
20. D

KARŞ. DİN. TARİHİ – 2

1. C
2. D
3. A
4. C
5. B
6. B
7. A
8. A
9. D
10. A
11. C
12. A
13. C
14. B
15. A
16. B
17. C
18. D
19. C
20. D

FRANSIZCA – 8

1. B
2. C
3. B
4. A
5. C
6. A
7. D
8. D
9. A
10. C
11. D
12. A
13. B
14. D
15. A
16. B
17. C
18. D
19. C
20. B

HZ. MUHAMMED'İN HAY. – 4

1. D
2. C
3. B
4. C
5. A
6. C
7. A
8. B
9. A
10. B
11. B
12. D
13. A
14. C
15. B
16. A
17. D
18. D
19. A
20. C

KARŞ. DİN. TARİHİ – 1

1. A
2. C
3. B
4. B
5. D
6. C
7. B
8. A
9. D
10. A
11. B
12. C
13. C
14. D
15. D
16. A
17. B
18. C
19. B
20. D

KELAM – 1

1. A
2. C
3. C
4. B
5. D
6. C
7. B
8. B
9. D
10. A
11. B
12. C
13. B
14. D
15. A
16. C
17. D
18. A
19. B
20. D

02 EKİM 2016 TARİHİNDE YAPILAN AÇIKÖĞRETİM LİSESİ / MESLEKİ AÇIKÖĞRETİM LİSESİ  
2015-2016 ÖĞRETİM YILI EK SINAVI 1. OTURUM T KİTAPÇIĞI CEVAP ANAHTARI

KELAM – 2

1. B
2. D
3. A
4. D
5. C
6. C
7. B
8. D
9. A
10. C
11. C
12. B
13. B
14. C
15. A
16. B
17. D
18. C
19. A
20. D