

OTURUM

2



T.C.
MİLLÎ EĞİTİM BAKANLIĞI
ÖLÇME, DEĞERLENDİRME VE SINAV HİZMETLERİ
GENEL MÜDÜRLÜĞÜ

AÇIK ÖĞRETİM LİSESİ / MESLEKİ AÇIK ÖĞRETİM LİSESİ
2015 - 2016 ÖĞRETİM YILI EK SINAV

2. OTURUM: 02 EKİM 2016 Saat:14.00

T

DERS KODU VE ADI	SAYFA	DERS KODU VE ADI	SAYFA	DERS KODU VE ADI	SAYFA
(111) DİN KÜL. AHL. BİL. – 1	3	(423) FİZİK – 3	32	(532) HZ. MUHAMMED'İN HAY. – 2	62
(112) DİN KÜL. AHL. BİL. – 2	4	(424) FİZİK – 4	34	(613) SEÇ. DİL VE ANLA. – 3	64
(113) DİN KÜL. AHL. BİL. – 3	5	(433) KİMYA – 3	36	(614) SEÇ. DİL VE ANLA. – 4	66
(114) DİN KÜL. AHL. BİL. – 4	7	(434) KİMYA – 4	37	(615) SEÇ. DİL VE ANLA. – 5	67
(123) SEÇ. FELSEFE – 1	8	(443) BİYOLOJİ – 3	39	(616) SEÇ. DİL VE ANLA. – 6	69
(124) SEÇ. FELSEFE – 2	9	(444) BİYOLOJİ – 4	40	(617) SEÇ. DİL VE ANLA. – 7	71
(151) COĞRAFYA – 1	11	(451) ÇAĞ. TÜRK VE DÜN. TAR. – 1	42	(618) SEÇ. DİL VE ANLA. – 8	72
(152) COĞRAFYA – 2	12	(455) DEM. ve İNSAN HAK. – 1	43	(623) SEÇ. TÜRK EDEB. – 3	74
(181) İNGİLİZCE – 1	14	(461) EKONOMİ – 1	44	(624) SEÇ. TÜRK EDEB. – 4	75
(181) ALMANCA – 1	15	(462) EKONOMİ – 2	45	(625) SEÇ. TÜRK EDEB. – 5	76
(181) FRANSIZCA – 1	16	(476) İŞLETME – 1	46	(626) SEÇ. TÜRK EDEB. – 6	77
(182) İNGİLİZCE – 2	17	(477) İŞLETME – 2	48	(627) SEÇ. TÜRK EDEB. – 7	79
(182) ALMANCA – 2	18	(479) MANTIK – 2	49	(628) SEÇ. TÜRK EDEB. – 8	80
(182) FRANSIZCA – 2	19	(481) SANAT TARİHİ – 1	50	(711) İSLAM TARİHİ – 1	81
(207) PSİKOLOJİ – 2	20	(482) SANAT TARİHİ – 2	51	(712) İSLAM TARİHİ – 2	83
(208) SOSYOLOJİ – 1	21	(503) SEÇ. TARİH – 3	53	(931) SİYER – 1	84
(401) DİL VE ANLATIM – 1	22	(504) SEÇ. TARİH – 4	54	(932) SİYER – 2	85
(402) DİL VE ANLATIM – 2	24	(505) SEÇ. COĞRAFYA – 3	55	(974) GİRİŞİMCİLİK – 1	86
(411) TÜRK EDEBİYATI – 1	26	(506) SEÇ. COĞRAFYA – 4	57	(975) GİRİŞİMCİLİK – 2	88
(412) TÜRK EDEBİYATI – 2	28	(511) FİKİH – 1	58	(998) MATEMATİK – 1	89
(421) FİZİK – 1	29	(512) FİKİH – 2	59	(999) MATEMATİK – 2	90
(422) FİZİK – 2	31	(531) HZ. MUHAMMED'İN HAY. – 1	61		

ADAYLARIN DİKKATİNE!

- Her ders için **20** soru bulunmaktadır. Bu oturumda **180** dakikalık cevaplama süreniz vardır. Sınav başladıktan sonra ilk **30** dakika tamamlanmadan dışarı çıkmayınız.
- Sınav sırasında çanta, cep telefonu, saat, kablosuz iletişim sağlayan cihazlar ve kulaklık, kolye, küpe, bilezik, yüzük, broş ve benzeri eşyalar ile her türlü elektronik ve/veya mekanik cihazları yanınızda bulundurmuyunuz. Bu araçları kullanmanız ve kopya çekmeye teşebbüs etmeniz hâlinde sınavınız geçersiz sayılacaktır.
- Başvuru şartlarını taşımadığınız hâlde sınava girmeniz, kopya çekmeniz, başka adayın sınav evrakını kullanmanız, geçerli kimlik belgenizi ve sınav giriş belgenizi ibraz edemediğiniz durumlarda sınavınız geçersiz sayılacaktır.
- Sınavın değerlendirilmesi aşamasında, bilgisayar ortamında yapılan kopya analizinde ikili veya toplu kopya tespiti hâlinde sınavınız geçersiz sayılacaktır.

CEVAP KÂĞIDI VE SORU KİTAPÇIĞI İLE İLGİLİ AÇIKLAMALAR

- Cevap kâğıdınızdaki bilgilerin doğruluğunu kontrol ediniz ve cevap kâğıdınızı mürekkepli kalemle imzalayınız.
- Soru kitapçığının sayfalarını görevlilerin uyarıları doğrultusunda kontrol ediniz, baskı hatası var ise değiştirilmesini sağlayınız.
- Soruların çözümü için size ayrıca boş kâğıt verilmeyecektir. Soru kitapçığının içindeki boş alanları soru çözümleri için kullanabilirsiniz.
- Her sorunun dört seçeneğinden sadece biri doğrudur. Doğru seçeneği, cevap kâğıdınızın ilgili sütununa soru numarasını dikkate alarak yuvarlağın dışına taşırmadan kodlayınız. **Soru kitapçığı üzerinde yapılan cevaplandırmalar dikkate alınmayacaktır.**
- Cevap kâğıdı üzerinde kodlamalarınızı siyah kurşun kalemle yapınız.
- Değiştirmek istediğiniz bir cevabı, yumuşak silgiyle cevap kâğıdını örselemeden temizce siliniz ve yeni cevabınızı kodlayınız.
- Cevaplamaya istediğiniz dersin sorusundan başlayabilirsiniz. Cevabını bilmediğiniz sorular üzerinde fazla zaman kaybetmeden diğer sorulara geçiniz. Zamanınız kalırsa bu sorulara daha sonra dönebilirsiniz.
- Yanlış cevaplarınız dikkate alınmadan sadece doğru cevaplarınız üzerinden puanlama yapılacaktır.
- Soruları ve sorulara verdiğiniz cevapları, yanınızda götürmek amacıyla kaydetmeyiniz; hiçbir şekilde dışarı çıkarmayınız.
- Sınav bitiminde soru kitapçığı ve cevap kâğıdını salon görevlilerine teslim ediniz, aksi takdirde sınavınız geçersiz sayılacaktır.**

BAŞLAYINIZ DENİLMEYEN SORU KİTAPÇIĞINI AÇMAYINIZ.

2. OTURUM

(111) DİN KÜL. AHL. BİL. – 1

1. “Dinde zorlama yoktur. Çünkü doğruluk sapıklıktan iyice ayrılmıştır. O halde kim tağutu tanımayıp Allah’a inanırsa, kopmak bilmeyen sapasağlam bir kulpa yapışmıştır.”
(Bakara suresi, 256. ayet)
Bu ayette, ibadetlerle ilgili temel ilkelerden hangisine işaret edilmektedir?

A) İsteklilik
B) Samimiyet
C) Gösteriştenden uzak olmak
D) Kolaylık ve güç yetirebilirlik

2. **Mekke’den Medine’ye hicret eden Müslümanlar aşağıdakilerden hangisi ile isimlendirilmiştir?**

A) Ensar B) Mülteci
C) Muhacir D) Göçmen

3. **Aşağıdakilerden hangisi abdestin farzlarından değildir?**

A) Yüzü yıkamak
B) Başı mesh etmek
C) Ağız temizlemek
D) Ayakları topukla birlikte yıkamak

4. **Cumhuriyet Dönemi’nde ilk meal çalışması yapan ilim adamı aşağıdakilerden hangisidir?**

A) Elmalılı Muhammed Hamdi Yazır
B) Mehmet Rifat Börekçi
C) Mehmet Akif Ersoy
D) Hasan Basri Çantay

5. **Aşağıdakilerden hangisi “ibadetin” kelime anlamlarından değildir?**

A) Kulluk etmek
B) İtaat etmek
C) Saygı göstermek
D) Benimsemek

6. **Medine Sözleşmesi hakkında verilen bilgilerden hangisi doğrudur?**

A) Hz. Muhammed (sav.) ile Mekkeliler arasında yapılmıştır.
B) Medine’de yaşayan dini guruplarla vatandaşlık esasına dayalı yapılan bir antlaşmadır.
C) Hz. Muhammed’in (sav.) Yahudi kabilelere verdiği talimatları içeren bir metindir.
D) Ensar ile muhacir arasında yapılan bir anlaşmadır.

7. “Şüphesiz göklerin yaratılmasında, gece ile gündüzün birbiri peşinden gelmesinde, insana fayda veren şeylerle yüklü olarak denizde yüzüp giden gemilerde, Allah’ın gökten indirip de ölü toprağı canlandırdığı suda, yer-yüzünde her çeşit canlıyı yaymasında, rüzgarları ve yer ile gök arasında emre hazır bekleyen bulutları yönlendirmesinde düşünen bir toplum için bir çok delil vardır.”
(Bakara suresi, 64. ayet)

Aşağıdakilerden hangisi bu ayetin temel mesajıdır?

A) Allah’ın her şeyi belli bir plan ve ahenge göre yaratmasında alınacak ibretler vardır.
B) Allah, göklerin ve yerin tek yaratıcısıdır.
C) Allah düşünen ve aklını kullananları sever.
D) Allah denizde ve karada var ettiği her şeyi insanın hizmetine vermiştir.

8. **Aşağıdakilerden hangisi sadece manevi temizliktir?**

A) Tövbe etmek
B) Çevreyi temizlemek
C) Gusül abdesti almak
D) Namaz abdesti almak

9. **Aşağıdakilerden hangisi İslam öncesi Araplardaki sosyal sınıflardan biri değildir?**

A) Hürler B) Köleler
C) İşçiler D) Mevlalar

10. **Mekke’de Müslümanların işken celere maruz kalması ve dinlerini yaşayamamaları sebebiyle ilk hicret ettikleri yer aşağıdakilerden hangisidir?**

A) Medine B) Habeşistan
C) Taif D) Hayber

11. **Su bulunmadığı zaman teyemmüm etmek İslam’ın insanlara sağladığı bir imkândır.**

Bu durum aşağıdaki ayetlerin hangisi ile ilişkilendirilebilir?

A) “...Eğer cünüp oldunuz ise boy abdesti alın...”
(Mâide suresi, 6. ayet)
B) “... (Allah) Her şeyi yaratıp bir ölçüye göre düzen vermiştir.”
(Furkân suresi, 2. ayet)
C) “... Allah sizin için kolaylık ister, güçlük istemez...”
(Bakara suresi, 185. ayet)
D) “... Kuşkusuz Allah, tövbe edenleri ve temizlenenleri sever.”
(Bakara suresi, 222. ayet)

12. **Aşağıdakilerden hangisi İslam öncesi Arap toplumunun sosyal ve ahlaki yapısında görülmez?**

A) Kız çocuğı sahibi olmak utanç vesilesiydi.
B) İnsanlar hürler ve köleler olmak üzere iki sınıfa ayrılmıştı.
C) Toplum edebiyat ve sanattan çok uzak yaşıyordu.
D) Köleler ve yoksullar eziliyor, hakları verilmiyordu.

13. **Hz. Muhammed (sav.)’in ticari kabiliyetinin gelişmesinde aşağıdakilerden hangisinin katkısından bahsedilemez?**

A) Eşi Hz. Hatice
B) Babası Abdullah
C) Amcası Ebu Talip
D) Amcası Hz. Abbas

14. **Hz. Muhammed (sav.)’in çocuklarından hangisi kendisinden sonra vefat etmiştir?**

A) İbrahim B) Kasım
C) Zeynep D) Fatıma

2. OTURUM

15. İlk gelen vahiyden sonra Hz. Muhammed (sav.)'e bir süre vahiy gelmemiştir.

Bu dönem aşağıdakilerden hangisiyle isimlendirilmiştir?

- A) Senetü'l Hüzün
B) Fetretü'l Vahiy
C) Senetü'l Vufud
D) Hılfu'l-Fudul

16. Aşağıdaki dinlerden hangisi kaynağına göre diğerlerinden farklıdır?

- A) İslam
B) Hristiyanlık
C) Hinduizm
D) Yahudilik

17. Aşağıdakilerden hangisi Mekke Dönemi'nde indirilen ayetlerin genel özelliklerinden biri değildir?

- A) Tevhit inancına yer verilmesi
B) Ahiret inancına vurgu yapılması
C) Peygamber kıssalarına değinilmesi
D) Toplumsal düzenlemelere yer verilmesi

18.

Tanımlar	Kavramlar
<ul style="list-style-type: none">• Kur'an'ı meydana getiren cümlelerdir.• Kur'an'ın yirmişer sayfalık bölümleridir.• Kur'an'ın kitap haline getirilmiş şeklidir.	<ul style="list-style-type: none">• Mushaf• Sure• Ayet• Cüz

Tabloda tanımlar ve kavramlar eşleştirildiğinde hangi kavram dışarıda kalır?

- A) Sure
B) Ayet
C) Cüz
D) Mushaf

19. Kur'an-ı Kerim'i, harflerinin çıkış yerlerine uygun olarak hatasız biçimde okumayı öğreten ilme ne denir?

- A) Akaid
B) Tecvit
C) Hadis
D) Tefsir

20. Kur'an-ı Kerim ile ilgili aşağıdakilerden hangisi yanlış bir bilgidir?

- A) Son ilahi kitaptır.
B) Hz. Muhammed'e gönderilmiştir.
C) Cebrail aracılığıyla gelmiştir.
D) Sadece Araplara gönderilmiştir.

(112) DİN KÜL. AHL. BİL. – 2

1. • 699 yılında Kufe'de doğmuştur.
• Fıkh-ı Ekber ve El-Âlim ve'l-Müteallim isimli eserleri mevcuttur.
• İmam Ebu Yusuf, İmam Muhammed ve İmam Züfer yetiştirdiği öğrencileridir.

Hakkında bilgi verilen İslam âlimi aşağıdakilerden hangisidir?

- A) İmam Şafii
B) İmam Eş'ari
C) İmam Maturidi
D) İmam Ebu Hanife

2. Ulaşılmak istenen ortak amaç, ideal, mefkure anlamına gelen kavram aşağıdakilerden hangisidir?

- A) Vatan
B) Milli seciye
C) Ülkü
D) Adet

3. İnsanın iyi veya kötü olarak nitelendirilmesine sebep olan huylarına, söz ve davranışlarına ne denir?

- A) Örf
B) Ahlak
C) Değer
D) Kültür

4. Hz. Muhammed (sav.), Medine'ye hicret ettikten sonra oradaki farklı inanç gruplarıyla ve kabilelerle anlaşarak inanç hürriyeti, ticaret yapma serbestliği gibi temel insani haklarını güvence altına almıştır.

Bu olay aşağıdakilerden hangisi ile isimlendirilmiştir?

- A) Hudeybiye Antlaşması
B) Medine Sözleşmesi
C) Veda Hutbesi
D) Akabe Biatları

5. Her toplumun kendine özgü değerleri vardır. Bu değerler, toplumdaki fertleri bir arada tutar. İnsanları tek tek fert olmaktan çıkarır, birlik beraberlik içinde yaşayan bir toplum hâline getirir.

Bu paragrafa uygun başlık aşağıdakilerden hangisidir?

- A) Değerlerin Oluşmasında Dinin Etkisi
B) Ahlaki Değerlerin Dinle İlişkisi
C) Değerlerin Toplumsal Hayata Etkisi
D) Kişilik Gelişmesinde Değerlerin Etkisi

6. Aşağıdakilerden hangisi yazılı olmadığı hâlde toplum hayatını düzenleyen kurallardandır?

- A) Sanat
B) Kültür
C) Örf - Âdet
D) Hukuk

7. Aşağıdakilerden hangisi bayrağın bir millet için ifade ettiği anlamlardan biri değildir?

- A) Bağımlılık
B) Özgürlük
C) Egemenlik
D) Estetik

8. 1948 yılında Birleşmiş Milletler tarafından ilan edilen İnsan Hakları Evrensel Beyanname'si'nde ifade edilen temel ilkelere bazıları İslam tarihinde aşağıdakilerin hangisinde ifade edilmiştir?

- A) Akabe Biatı'nda
B) Veda Hutbesi'nde
C) Mekke'nin Fethi'nde
D) Hudeybiye Barış Antlaşması'nda

9. "Emrolunduğun gibi dosdoğru ol..." (Hud suresi, 112. ayet)

Bu ayet İslam'ın aşağıdaki özelliklerinden hangisiyle ilişkilendirilebilir?

- A) Akla ve iradeye önem vermesiyle
B) Barışa önem vermesiyle
C) Evrensel oluşuyla
D) Bireyi esas almasıyla

2. OTURUM

10. Anayasamızda insan hakları üç ana başlık altında ele alınmıştır. **Aşağıdakilerden hangisi bu üç ana başlıktan biri değildir?**

A) Kadın hakları
B) Kişi hakları
C) Siyasi haklar
D) Ekonomik ve Sosyal Haklar

11. **Aşağıdaki ayetlerden hangisi dinin istismar edilmesi ile ilişkilendirilebilir?**

A) "... Allah'ın ayetlerini az bir karşılık ile satmayın..." (Bakara suresi, 41. ayet)
B) "İşte bunlar Allah'ın ayetleridir. Biz onları sana doğru olarak anlatıyoruz..." (Bakara suresi, 252. ayet)
C) "Size ayetlerim okunurdu da siz onları yalanladınız değil mi?" (Mü'minûn suresi, 105. ayet)
D) "Kendilerine, O çok esirgeyici Allah'tan hiçbir yeni öğüt gelmez ki, ondan yüz çevirmesinler." (Şuarâ suresi, 5. ayet)

12. **Laiklik ilkesi Anayasa'ya aşağıdaki tarihlerden hangisinde girmiştir?**

A) 1933 B) 1935
C) 1937 D) 1939

13. **Aşağıdakilerden hangisi Atatürk'ün taassup ile ilgili düşüncelerinden biridir?**

A) Taassup laiklik anlayışıyla bağdaşmaz.
B) Dini konularda taassup sahibi olmak gerekir.
C) Taassubun kaynağı dindir.
D) Hoşgörü ortamı taassubu geliştirir.

14. **Aşağıdakilerden hangisi Gök Tanrı inancının temel özelliklerinden biri değildir?**

A) Tanrı bir ve tek olandır.
B) Her şeyi yaratan, yaşatan ve koruyan Tanrı'dır.
C) Dünya hayatından sonra sonsuz bir hayat vardır.
D) Tanrı bazı insanların bedenlerinde şekillenmiştir.

15. **Aşağıdakilerden hangisi Müslüman Türk Devletleri arasında yer almaz?**

A) Emeviler
B) Gazneliler
C) İtil Volga Bulgar Devleti
D) Anadolu Selçuklu Devleti

16. **Bir toplumda genel kabul gören veya benimsenen her türlü duygu, düşünce, davranış ve kural olarak tarif edilen kavram aşağıdakilerden hangisidir?**

A) Hukuk B) Millet
C) Ahlak D) Değer

17. **"Zarurât-i Hamse" olarak adlandırılan İslam dininin korunmasını istediği esaslar arasında aşağıdakilerden hangisi yer almaz?**

A) Örf B) Can
C) Mal D) Namus

18.

	Eser	Yazar
I	Divan-ı Hikmet	Ahmet Yesevî
II	Makalât	Hacı Beştaş-ı Veli
III	Kanun fit-Tıp	İbn Sina
IV	Mesnevi	Ahî Evran

Tablodaki eşleştirmelerden hangisi yanlıştır?

A) I B) II C) III D) IV

19. **Bayramilik tarikatının kurucusu aşağıdakilerden hangisidir?**

A) Ahi Evran
B) Hacı Bektaş-ı Veli
C) Hacı Bayram-ı Veli
D) Hoca Ahmet Yesevi

20. "Yavrucuğum! Küçümseyerek insanlardan yüz çevirme ve yeryüzünde böbürlenerek yürüme! Zira Allah kendini beğenmiş öğünüp duran kimseleri asla sevmez." (Lokman suresi, 13-19. ayetler)

Hz. Lokman'ın oğluna verdiği öğütlerin yer aldığı bu ayette aşağıdaki kötü davranışlardan hangisi reddedilmektedir?

A) Gıybet B) Kibir
C) Haset D) Kin ve nefret

(113) DİN KÜL. AHL. BİL. – 3

1. **Aşağıdakilerden hangisi "salih amel" olarak değerlendirilemez?**

A) Sokak hayvanlarına sahip çıkmak
B) Pazartesi ve perşembe günleri oruç tutmak
C) Yurtlarından çıkarılmış mazlumlara yardımcı olmak
D) İbadetleri insanların beğenisini kazanmak için yapmak

2. "Ey Muhammed! De ki: Ben de ancak sizin gibi bir insanım. Ne var ki bana sizin ilahınız ancak bir tek ilahtır diye vahyolunuyor. Kim Rabbine kavuşmayı umuyorsa yararlı bir iş yapsın ve Rabbine ibadette kimseyi ortak koşmasın." (Kehf suresi, 110. ayet)

Bu ayette Hz. Peygamber'in hangi yönüne değilmiştir?

A) Güvenilirlik B) Peygamberlik
C) Tebliğ D) İnsani

3. **Allah'ın, kendisini görüp gözettiğini bilen bir kişiden aşağıdakilerden hangisi beklenmez?**

A) Helal ve harama dikkat etmesi
B) Sorumluluk duygusuyla hareket etmesi
C) Aklını iyi ve doğru yolda kullanması
D) Kendi gücünün sınırsız olduğuna inanması

2. OTURUM

4. İslam inancına göre aşağıdakilerden hangisi yanlış bir bilgidir?

- A) Allah evreni yaratıp kendi hâline bırakmıştır.
- B) Dirilten ve öldüren ancak Allah'tır.
- C) Allah yarattığı hiçbir varlığa benzemez.
- D) Allah tüm canlıları koruyup gözetmektedir.

5. Aşağıdakilerden hangisi ilahi kitaplardan biri değildir?

- A) Tevrat
- B) Avesta
- C) İncil
- D) Zebur

6. Yüce Allah'ın ezelden ebede kadar olacak bütün şeylerin zamanını ve yerini, özellik ve niteliklerini, ezeli ilmiyle bilip takdir etmesi şeklinde tarif edilen kavram aşağıdakilerden hangisidir?

- A) İrade
- B) Tevekkül
- C) Kader
- D) Kaza

7. Aşağıdakilerden hangisi namazın, dışındaki farzlarından biridir?

- A) Namazda Kur'an okumak
- B) Kibleye yönelmek
- C) Ettehiyyatu duasını okuyacak kadar oturmak
- D) Namazda ayakta durmak

8. Aşağıdakilerden hangisi orucun toplumsal yararlarından biridir?

- A) İradeyi güçlendirmesi
- B) Sabır gücünü artırması
- C) Şefkat ve merhamet duygusunu geliştirmesi
- D) Zenginle fakir arasında yakınlaşma sağlaması

9. Aşağıdakilerden hangisi zekâtla ilgili bir kavramdır?

- A) Nisap
- B) İhram
- C) Tavaf
- D) Fitre

10. Allah'ın hoşnutluğunu kazanmak amacıyla yapılan her güzel iş ve davranışa ne denir?

- A) Hüsnüzan
- B) Salih amel
- C) Karzıhasen
- D) Ef'al-i Mükellefin

11. "Beni namaz kılarken gördüğünüz şekilde namaz kılınız." hadisi Hz. Peygamber'in aşağıdaki özelliklerinden hangisine örnek oluşturur?

- A) Son peygamber olduğuna
- B) Kur'an-ı açıkladığına
- C) İnsanlara rahmet olduğuna
- D) Güvenilir olduğuna

12. Aşağıdaki günlerin hangisinde oruç tutulabilir?

- A) Kurban Bayramı'nın birinci günü
- B) Kurban Bayramı'nın ikinci günü
- C) Ramazan Bayramı'nın birinci günü
- D) Ramazan Bayramı'nın ikinci günü

13. Aşağıdakilerden hangisi oruçlarını kazaya bırakma ruhsatına sahip değildir?

- A) Hastalar
- B) Yolcular
- C) Çiftçiler
- D) Emzikli kadınlar

14. Orucunu mazeretsiz olarak bozanların cezası aşağıdakilerden hangisidir?

- A) Bozduğu her oruç için on fakiri giydirmek
- B) Aralıksız atmış gün kefaret orucu tutmak
- C) Orucunu bozduğu her günü kaza etmek
- D) Her gün için bir fidye vermek

15. Zekât ile ilgili aşağıda verilen bilgilerden hangisi yanlıştır?

- A) Zekât verilecek malın veya paranın üzerinden bir yıl geçmesi gerekir.
- B) Akıllı, zengin ve ergenlik çağına girmiş Müslümanlara farzdır.
- C) Toprak ürünlerinin zekâtı kırkta bir olarak verilir.
- D) Kişi anne ve babasına zekât veremez.

16. Aşağıdakilerden hangisi haccın farzlarından biri değildir?

- A) Şeytan taşlama
- B) İhrama girmek
- C) Arafat'ta vakfe
- D) Kâbe'yi tavaf

17. Hac ibadeti ile ilgili aşağıda verilen bilgilerden hangisi yanlıştır?

- A) Hem mal hem de bedenen yapılan bir ibadettir.
- B) Gücü yeten bütün Müslümanlara farzdır.
- C) Yılın belirli günlerinde yapılır.
- D) Hacda kurban kesmek farzdır.

18. Kurban edilecek hayvanlar ile ilgili verilen bilgilerden hangisi doğrudur?

- A) Eti helal olan bütün hayvanlar kurban olarak kesilebilir.
- B) Sığır ve mandaların üç yaşını doldurmuş olması gerekir.
- C) Koyun ve keçinin bir yaşını doldurmuş olması gerekir.
- D) Develerin iki yaşını doldurmuş olması gerekir.

19. Aşağıdakilerden hangisi Allah'ın var olduğunu ispat için kullanılan ifadelerden biridir?

- A) Evren tüm varlıkları kapsar.
- B) Tabiattaki kaynaklar sınırlıdır.
- C) Varlıklar gelişme hâlinindedir.
- D) Sonradan var olan her şey bir yaratıcıya muhtaçtır.

20. Aşağıdaki ayetlerden hangisi Allah'ın birliğine kanıt oluşturur?

- A) "Eğer yerde ve göklerde Allah'tan başka ilahlar olsaydı, göklerin ve yerin düzeni bozulurdu..." (Enbiya suresi, 22. ayet)
- B) "Ant olsun biz insanı en güzel biçimde yarattık." (Tin suresi, 4. ayet)
- C) "...Allah dilediğini yaratır. Bir işe hükmedince ona sadece "ol" der, o da olur." (Âl-i İmran suresi, 47. ayet)
- D) "Gökleri ve yeri koruyup gözetmek ona güç gelmez..." (Bakara suresi, 255. ayet)

2. OTURUM

(114) DİN KÜL. AHL. BİL. – 4

1. Aşağıdakilerden hangisi Hz. Peygamber'e vahyin geliş şekillerinden biri değildir?

- A) Perde arkasından
- B) Cebrail vasıtasıyla
- C) Kalbe ilham yoluyla
- D) Yazılı metin halinde

2. Aşağıdaki ayet ve hadislerden hangisi İslam'ın bilime verdiği değere örnek oluşturmaz?

- A) "...Hiç bilenlerle bilmeyenler bir olur mu?..." (Zümer suresi, 9. ayet)
- B) "Ey iman edenler! Allah'ın size helal kıldığı iyi ve temiz şeyleri haram kılmayın..." (Mâide suresi, 87. ayet)
- C) Kıyamet gününde âlimlerin mürekkebi, şehitlerin kanı ile tartılır. (Hadis)
- D) İlim ve hikmet, Müminin yitiğidir. Her nerede bulursa alır. (Hadis)

3. "... Hiç bilenlerle bilmeyenler bir olur mu?..." (Zümer suresi, 9. ayet)

Bu ayette aşağıdakilerden hangisinin önemine vurgu yapılmaktadır?

- A) Eğitim - öğretimin
- B) Düşünce ve ifade özgürlüğünün
- C) Sağlığın
- D) Çalışmanın

4. Aşağıdaki ayet ve hadislerden hangisi özel yaşamın gizliliği ile ilişkilendirilemez?

- A) "Ey iman edenler! Kendi evinizden başka evlere, seslenip izin almadan, ev halkına selam vermeden girmeyiniz..." (Nur suresi, 27. ayet)
- B) "İzin almadan bir kimsenin evinin içine bakmak helal değildir." (Hadis-i Şerif)
- C) "Birbirinizin gizli ve ayıp hallerini araştırmayınız." (Hucurat suresi, 12. ayet)
- D) "Ey iman edenler! Yapmayacağınız şeyleri niçin söylüyorsunuz?" (Saff suresi, 2. ayet)

5. "Hazreti Peygamber Efendimiz, bütün Müslümanların ve kutsal kitap sahiplerinin bildiği üzere, Allah tarafından dini gerçekleri insanlık dünyasına duyurmaya ve anlatmaya memur edilmiştir..."

Atatürk, bu sözle Hz. Peygamber'in hangi özelliğini vurgulamıştır?

- A) Peygamberliğini
- B) Hoşgörüsünü
- C) Güvenilirliğini
- D) İnsaniliğini

6. İslam ve bilim hakkında aşağıda verilen bilgilerden hangisi yanlıştır?

- A) İslam dininin kaynağı ilâhidir.
- B) Bilim, hayatımızı kolaylaştırır.
- C) İslam bilimle çatışma hâlidir.
- D) Bilimsel bilgi evrenseldir.

7. "Asırlar boyunca ve bugün de kavimlerin cehil ve tassabundan faydalanarak bin bir türlü siyasi ve şahsi menfaat temini için dini, alet ve vasıta olarak kullanmak teşebbüsünde bulunanların iç ve dışta varlığı yüzünden bu hususta yapılanları söylemekten kendimizi alamıyoruz."

Atatürk bu sözle aşağıdakilerden hangisini eleştirmektedir?

- A) Fal bakıp büyü yapanları
- B) Batıl itikat ve hurafelerle uğraşanları
- C) Din bilimlerine yeterince önem vermeyen bilginleri
- D) Kendi çıkarları doğrultusunda dini sömürenleri

8. Aşağıdaki âlimlerden hangisi hadis alanında meşhurdur?

- A) Ebu Davud
- B) Ebû Hanife
- C) İmam Şafî
- D) İmam Maturidi

9. Aşağıdaki camilerden hangisi Endülüs'te yapılmıştır?

- A) Ezher Camisi
- B) Amr Camisi
- C) Emeviye Camisi
- D) Kurtuba Camisi

10. Aşağıdakilerden hangisi vahiy kelimesinin sözlük anlamlarından biri değildir?

- A) Gizli söz
- B) Güç, kudret
- C) İşaret
- D) İlham

11. Aşağıdakilerden hangisi Diyanet İşleri Başkanlığının kurulmasındaki amaçlardan biri değildir?

- A) Hurafelerin önüne geçmek
- B) Dinin doğru anlaşılmasını sağlamak
- C) Din hizmetlerinde birliği sağlamak
- D) Dinin devlet üzerindeki etkisini artırmak

12. Aşağıdakilerden hangisi İslam'a göre doğru bilgiye ulaşma yollarından biri değildir?

- A) Akıl
- B) Vahiy
- C) Kehanet
- D) Duyu

13. Aşağıdakilerden hangisi temel haklar için söylenemez?

- A) Vazgeçilmezdir.
- B) Devredilemezdir.
- C) Dokunulmazdır.
- D) Bölgeseldir.

14. "Gerçek, ancak Rabbindendir. Artık, sakın şüpheye düşenlerden olmayasın." (Bakara suresi 147. ayet)

Bu ayette aşağıdakilerden hangisine vurgu yapılmıştır?

- A) Aklın kullanılması gerektiğine
- B) Vahyin doğru ve kesin bilgi olduğuna
- C) Duyu organlarıyla gerçeğin bulunabileceğine
- D) Hz. Peygamberin rahmet olarak gönderildiğine

15. Aşağıdaki âlimlerden hangisi fıkıh alanında meşhurdur?

- A) Buhari
- B) Müslim
- C) İmam Şafii
- D) Muhammed Hamdi Yazır

2. OTURUM

(123) SEÇ. FELSEFE – 1

16. “Ey iman edenler! Şarap, kumar, dikili taşlar (putlar), fal ve şans okları birer şeytan işi pisliktir; bunlardan uzak durun ki kurtuluşa eresiniz?” (Mâide suresi, 90. ayet)

Bu ayette aşağıdaki haklardan hangisini korumaya yönelik bir tavsiye yer alır?

- A) İnanç özgürlüğü
B) Sağlık hakkı
C) İbadet hakkı
D) Özel yaşamın gizliliği hakkı

17. Selçuklu veziri Nizamülmülk’ün 1067 yılında Bağdat’ta kurduğu medrese aşağıdakilerden hangisidir?

- A) Gök Medrese
B) Karatay Medresesi
C) Nizamiye Medresesi
D) Çifte Minareli Medrese

18. “Kitabü’ş Şifa ve El-Kanun fit-Tıp” adlı eserler hangi Müslüman bilim adamına aittir?

- A) İbn-i Sina B) Piri Reis
C) Ali Kuşçu D) İbn’ül-Heysem

19. Aşağıdakilerden hangisi İslam tarihinde ilk eğitim kurumu olarak kabul edilmektedir?

- A) Küttap B) Medrese
C) Suffe D) Cami

20. “Şüphesiz, göklerin ve yerin yaratılışında, gece ile gündüzün birbiri ardınca gelişinde, ... rüzgârları ve yerle gök arasındaki emre amade bulutları evirip çevirmesinde elbette düşünen bir topluluk için deliller vardır.”

(Bakara suresi, 164. ayet)

Aşağıdakilerden hangisi bu ayetten çıkarılabilecek bir sonuçtur?

- A) Evrendeki birçok olay Allah’ın varlığına kanıt oluşturur.
B) Bilim adamı önyargısız olmalıdır.
C) İnsan, akli sayesinde diğer varlıklardan üstündür.
D) Allah’ın ilmi herşeyi kuşatır.

1. İnsan yaşamının ve eylemlerinin dayandığı ilkelerin irdelenmesi ve temellendirilmesi, insanın bu dünyadaki varoluşunu anlamlandırması açısından büyük önem taşır. Yaşamın dayandığı ilkeleri sorgulamadan ve temellendirmeden gerçekleştirilecek bir varoluş sıradan temelsiz bir varoluştur.

Varoluşun sıradanlıktan kurtulması aşağıdakilerden hangisine dayandırılmıştır?

- A) Yaşamın araştırma ve sorgulamaya dayanması
B) Hayatın olduğu gibi kabul edilmesi
C) Olaylara aynı açıdan bakılması
D) Duygulara göre hareket edilmesi

2. Aşağıdakilerden hangisi felsefenin doğrudan ele aldığı konulardan değildir?

- A) Sanat B) Bilgi
C) Varlık D) Sosyal grup

3. Bilimsel bilgide özne ile nesne arasındaki bağ aşağıdakilerden hangisiyle kurulur?

- A) İnanç
B) Beğeni
C) Hayal gücü
D) Deney ve gözlem

4. Aşağıdakilerden hangisi felsefe ve sanatın ortak özelliklerindedir?

- A) Akıl ilkelerine dayanma
B) Doğruya ulaşmayı amaçlama
C) İnsanı anlama ve yorumlama
D) Güzeli bulmaya çalışma

5. Aşağıdakilerden hangisi bilgi felsefesinin temel kavramlarından dandır?

- A) Vicdan B) Doğruluk
C) Güzellik D) İyi

6. Aşağıdakilerden hangisi bilgi felsefesinin konularından değildir?

- A) Bilginin değeri
B) Bilginin sınırları
C) Varlığın ana maddesi
D) Bilginin kaynağı

7. • Sofistlere göre bilgi kişiden kişiye değişir.
• Septiklere göre, farklı koşullar özneyi farklı şekilde etkilediği için bilgi konusunda kesin yargılara ulaşılamaz.

Bu yaklaşımların bilgi konusundaki ortak yönleri aşağıdakilerden hangisidir?

- A) Bilginin kişiden kişiye değişmeyeceği
B) Genel geçer doğru bilginin olmayacağı
C) Kesin bilgiye akıl ile ulaşılabileceği
D) Doğru bilgiye ulaşılabileceği

8. Doğru bilginin kaynağını akıl ve deney olarak gören felsefi yaklaşım aşağıdakilerden hangisidir?

- A) Kritisizm B) Empirizm
C) Pozitivizm D) Pragmatizm

9. Empiristler, bilginin kaynağında sadece deney ve gözlemin bulunduğunu, insan aklında doğuştan hiçbir bilginin olmadığını kabul ederek insan zihnini boş bir levhaya benzetirler.

Buna göre, empiristlerin eleştirdiği görüş aşağıdakilerden hangisidir?

- A) Bilginin kaynağı deneydir
B) Bilginin kaynağı akıldır
C) Bilginin kaynağı sezgidir
D) Bilginin kaynağı duyumlardır

10. Aşağıdakilerden hangisi pozitivizm akımının temsilcilerindedir?

- A) Sokrates
B) Farabi
C) Platon
D) Auguste Comte

2. OTURUM

(124) SEÇ. FELSEFE – 2

11. Bilim felsefesinin konusu aşağıdakilerden hangisidir?

- A) Varlık B) Bilim
C) Estetik D) Bilgi

12. Aşağıdakilerden hangisi Rönesans Dönemi'nin özelliklerinden değildir?

- A) İnsan aklı ön plana çıkmıştır.
B) Bireycilik anlayışı gelişmiştir.
C) Bilim, din ve felsefenin etkisine girmiştir.
D) Hümanizm anlayışı hakim olmaya başlamıştır.

13. Bilimsel bilginin uygulama alanı aşağıdakilerden hangisidir?

- A) Teknoloji B) Din
C) Felsefe D) Metafizik

14. Carnap'a göre doğruluğu ve yanlışlığı sınınamayan önermeler anlamsız metafizik önermelerdir.

Buna göre aşağıdakilerden hangisi anlamsız önermedir?

- A) Tüm metaller ısınınca genişir.
B) Bugün hava yağışlıdır.
C) Ruh ölümsüzdür.
D) Kar beyazdır.

15. Bilimsel bir çalışmanın gelişigüzel değil, bir yol izlenerek yapılması bilimsel bilginin hangi özelliğinden kaynaklanmaktadır?

- A) Olgusallığı
B) Tutarlılığı
C) Eleştireliliği
D) Geçerli yöntemle elde edilmesi

16. Bilim, döneminin değerlerinden, inançlarından bağımsız değildir. Bilim adamlarını yaşadığı toplumun inançları, değerleri ve kültürel değişimleri etkilemektedir.

Görüşleri verilen yaklaşım aşağıdakilerden hangisine aittir?

- A) Mantıkçı pozitivism
B) Etkinlik olarak bilim
C) Ürün olarak bilim
D) Klasik görüş

17. Olgulararası ilişkilerden, bilimsel açıklamalardan yararlanarak olmamış bir olayı önceden kestirme bilimlerin aşağıda verilen hangi özelliğinden kaynaklanmaktadır?

- A) Nesnel olma
B) Objektif olma
C) Olgusal olma
D) Önde yide bulunma

18. Evreni nesnel ve idealler dünyası olarak ayıran, idealler dünyasını ise öncesiz, sonsuz kalıcı varlıklar olarak gören filozof aşağıdakilerden hangisidir?

- A) Demokritos B) Hobbes
C) Platon D) Descartes

19. Evrende değişmeyen hiçbir şey olmadığını savunan Herakleitos bu değişimi "Aynı ırmakta iki kez yıkanamazsınız" sözüyle dile getirir.

Herakleitos'un bu düşüncesi aşağıdakilerden hangisine uygunluk gösterir?

- A) Varlık oluştur.
B) Varlık düşüncedir.
C) Varlık maddedir.
D) Varlık ideadır.

20. I. Ruh
II. Madde
III. Hava
IV. Ateş

Descartes'in öne sürdüğü birbirinden farklı iki töz verilenlerden hangisidir?

- A) I ve II B) I ve III
C) II ve III D) II ve IV

1. İssiz adaya düşen roman kahramanı Hay, büyüdükçe diğer canlılarla kendi farkını sorgulamaya başlar. Toplumsal hiçbir denetim mekanizması ve edinmiş olduğu bilgi olmadan Allah'ın varlığına akıl yoluyla ulaşır. Hiçbir baskı ve değer yargısı olmadan, kendi iradesiyle tamamen özgür olarak bu sonuca ulaşmıştır.

Verilen düşünce insanın özgürlüğüyle ilgili aşağıdaki yaklaşımlardan hangisine uygunluk gösterir?

- A) Determinist yaklaşım
B) İndeterminist yaklaşım
C) Fatalist yaklaşım
D) Sezgisel yaklaşım

2. Aşağıdakilerden hangisi ahlak felsefesinin temel sorularındandır?

- A) İyi nedir?
B) Bilginin kaynağı nedir?
C) Meşruiyetin ölçüsü nedir?
D) Ortak estetik yargılar var mıdır?

3. Nietzsche'ye göre toplumda halk ve seçkinler olmak üzere iki sınıf vardır. Halk sürü durumundadır ve var olan kurallarla hareket etmektedirler. Bunun yerine mevcut kurallarla hareket etmeyen, seçkinler arasından yetişecek üst insanlarca oluşturulacak güç ahlakını koymak gerekir.

Aşağıdakilerden hangisi Nietzsche'nin görüşünü yansıtmaktadır?

- A) Ahlak yerleşik kurallara göre oluşturulmalıdır.
B) Toplumun ortak yararına göre hareket edilmelidir.
C) Geleneksel değerlerden sıyrılarak yeni bir ahlak anlayışı geliştirilmelidir.
D) Var olan ahlak anlayışıyla yetinilmelidir.

2. OTURUM

4. I. Anarşizm
II. Hazcılık
III. Sezgicilik
IV. Ödev ahlakı

Verilen yaklaşımlardan hangisi evrensel ahlak yasasının varlığını reddeder?

- A) I ve II B) I ve III
C) II ve III D) II ve IV

5. Kant'a göre bir eylem çıkar veya beklentiden değil, bir ödev duygusu ile yapılmışsa ahlaki eylem olabilir. Bir eylem sonuçları dikkate alınarak yapılıyorsa, koşula bağlanmışsa ahlaki olmaz.

Kant'a göre bir eylemin ahlaki olması aşağıdakilerden hangisine bağlıdır?

- A) Beklentiye karşılık gelmesine
B) Mutluluğa ulaşma çabasına
C) Çıkar duygusundan kaynaklanmasına
D) Ödev duygusuyla hareket edilmesine

6. "Bir eylemin iyi ya da kötü olduğunu iyi ideasına uygun olup olmadığına bakarak karar verebiliriz. Bir eylem iyi ideasına uygunsa iyi, uygun değilse kötüdür."

Bu düşünce aşağıdaki filozoflardan hangisine aittir?

- A) Spinoza B) Platon
C) Epiküros D) Bergson

7. Mevlana evrensel ahlak yasasını aşağıdakilerden hangisiyle temellendirir?

- A) Haz B) Çıkar
C) Sevgi D) Fayda

8. Sivil toplum, meşruiyet, iktidar, hukuk gibi kavramları ele alan felsefe dalı hangisidir?

- A) Siyaset felsefesi
B) Ahlak felsefesi
C) Bilgi felsefesi
D) Din felsefesi

9. Yurttaşların devlet yönetimine katılmasını sağlayan haklar aşağıdakilerden hangisiyle ifade edilir?

- A) Toplumsal haklar
B) Siyasal haklar
C) Ekonomik haklar
D) Kişisel haklar

10. Devletin etki, baskı ve yönlendirmesinin dışında, toplumun kendi kendisini yönlendirmek, çıkarlarını savunmak amacıyla kurulan örgütlere "sivil toplum örgütleri" denir.

Buna göre aşağıdakilerden hangisi sivil toplum örgütlerinin özelliklerinden değildir?

- A) Devlet karşısında toplumun-bireyin çıkarlarını savunması
B) Özgür ve bağımsız kararlar alabilmesi
C) Özgür vatandaşlardan meydana gelmesi
D) Siyasi otoriteye bağlı olması

11. İdeal düzenin, insanlar arasında tam eşitliğin gerçekleşmesiyle mümkün olacağını, bunun için de üretim araçlarının herkese ait olması gerektiğini savunan yaklaşım aşağıdakilerden hangisidir?

- A) Liberalizm B) Sosyalizm
C) Nihilizm D) Septisizm

12. Nihilistlere göre ideal bir düzen yoktur olmamalı da. Çünkü, ideal sistemler bireyselliği, yaratıcılığı, dolayısıyla özgürlüğü yok ederler.

Bu düşünce aşağıdaki felsefe alanlarından hangisinin konusunu oluşturur?

- A) Bilim felsefesi
B) Sanat felsefesi
C) Siyaset felsefesi
D) Din felsefesi

13. Zihinde tasarlanmış bir takım ilkelere göre oluşturulmuş hayali toplumu ifade eden kavram aşağıdakilerden hangisidir?

- A) Ütopya B) Karmaşa
C) Düzen D) Devlet

14. Aşağıdakilerden hangisi "1984" isimli ütopya eserinin yazarıdır?

- A) Farabi
B) Platon
C) George Orwell
D) Yusuf Has Hacıp

15. "Güzel" in ne olduğunu sorgulayan felsefe dalı aşağıdakilerden hangisidir?

- A) Etik B) Estetik
C) Ontoloji D) Epistemoloji

16. Schiller'e göre sanat ile oyun arasında benzerlikler vardır. Her ikisi de insanı gündelik yaşamın kaygı, sıkıntı ve korkularının dışına çıkarır, her ikisi de yarar amacı gütmeyen zevk verir.

Buna göre sanatla oyun arasındaki benzerlik aşağıdakilerden hangisinde verilmiştir?

- A) Fayda amacı gütmeme
B) Doğayı taklit etme
C) Korkularımızla yüzleşme
D) Gereksiz faaliyette bulunma

17. Aşağıda estetik yargılarla ilgili olarak verilen ifadelerden hangisi yanlıştır?

- A) Estetik yargılar bireyseldir.
B) Estetik yargılar kültürel özelliklerden etkilenir.
C) Estetik yargılar "güzel-çirkin" şeklinde değerlendirmelerdir.
D) Estetik yargılar, bireylerin nasıl davranması gerektiğini açıklayan yargılardır.

2. OTURUM

18. Din felsefesi genel olarak dini, insanlardaki din duygusunun ne olduğunu, inancın yapısını eleştirel olarak incelemeye çalışan felsefe dalıdır. Bunu yaparken herhangi bir dinin yanında veya karşısında yer almaz.

Açıklamada aşağıdakilerden hangisi üzerinde durulmuştur?

- A) Tanrının varlığı
B) Evrenin yaratılışı
C) Felsefenin dine yaklaşımı
D) Dinin toplum yaşamındaki yeri

19. Aşağıdakilerden hangisi din felsefesinin temel kavramlarından dır?

- A) Bilgi B) Erdem
C) Güzellik D) Vahiy

20. Tanrı, mutlak varlık, varlığın anlamı gibi metafizik kavramların bilgisinin elde edilemeyeceğini savunan Thomas Huxley, Tanrının varlığıyla ilgili aşağıdaki görüşlerden hangisini savunur?

- A) Deizm B) Ateizm
C) Panteizm D) Agnostisizm

(151) COĞRAFYA – 1

1. İklim olaylarının meydana gelmesinde aşağıdaki atmosfer katmanlarından hangisinin belirleyici etkisi daha fazladır?

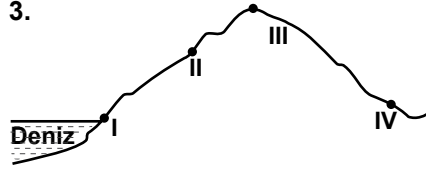
- A) Stratosfer B) Troposfer
C) Mezosfer D) Termosfer

2. Ekvator da 28°C civarında olan yıllık sıcaklık ortalamaları kutuplarda 0°C'nin altına düşmektedir.

Ekvator ve kutupların yıllık sıcaklık ortalamaları arasındaki farkın temel nedeni aşağıdakilerden hangisidir?

- A) Etkili olan dış kuvvetlerin farklı olması
B) Kara ve deniz oranlarının değişmesi
C) Bitki ve hayvan türlerinin farklılık göstermesi
D) Güneş ışınlarının geliş açısının farklı olması

3.



Yükseltinin sıcaklık üzerindeki etkisi dikkate alındığında, yukarıda numaralandırılarak verilen merkezlerin hangisinde sıcaklığın daha az olması beklenir?

- A) I B) II C) III D) IV

4. Altan ısınan nemli hava kütlelerinin hızla yükselmesi sonucunda soğuyup yoğunlaşmasıyla oluşan yağış çeşidi aşağıdakilerden hangisidir?

- A) Yamaç yağışları
B) Cephe yağışları
C) Orografik yağışlar
D) Konveksiyonel yağışlar

5. • Yaz ve kış mevsimlerinde kara ve deniz arasında yön değiştirir.
• Hindistan, Çin, Japonya ve Bangladeş gibi ülkelerin iklimi üzerinde etkilidir.

Yukarıda bazı özellikleri verilen rüzgâr aşağıdakilerden hangisidir?

- A) Fön rüzgârları
B) Alize rüzgârları
C) Muson rüzgârları
D) Melttem rüzgârları

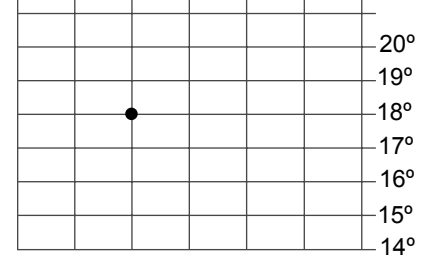
6. Aşağıdakilerden hangisi fiziki coğrafyanın alt dallarından değildir?

- A) Jeomorfoloji B) Klimatoloji
C) Hidroğrafya D) Demografi

7. Alp, Himalaya ve And Dağları'nın dağılışı alanlarını incelemek isteyen bir öğrencinin, aşağıdaki harita türlerinin hangisinden yararlanması uygundur?

- A) Fiziki harita
B) Beşeri harita
C) Siyasi harita
D) Ekonomi haritası

8. 23° 24° 25° 26° 27° 28°



Koordinat sistemi üzerinde (•) ile gösterilen merkezin konumu aşağıdakilerden hangisinde doğru verilmiştir?

- A) 14° Güney paraleli
23° Batı meridyeni
B) 18° Kuzey paraleli
25° Doğu meridyeni
C) 16° Kuzey paraleli
24° Doğu meridyeni
D) 20° Güney paraleli
28° Batı meridyeni

9. Aşağıdakilerden hangisi Dünya'nın günlük hareketinin sonuçlarından biri değildir?

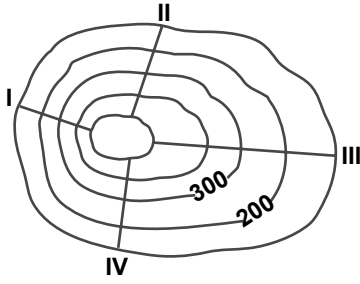
- A) Gece ve gündüzün ardalanması
B) Sürekli dinamik basınç kuşaklarının oluşması
C) Sürekli rüzgarların yönlerinde sapmaların olması
D) Mevsim sürelerinin yarım kürelere göre farklılık göstermesi

10. Aşağıdakilerden hangisi rüzgârların etkisiyle oluşan yer şekillerine örnektir?

- A) Mantar kaya
B) Delta ovası
C) Dev kazanı
D) Traverten

2. OTURUM

11.



Yukarıdaki izohips haritası üzerinde numaralandırılarak verilen doğrultulardan hangisinde eğim oranı daha azdır?

- A) I B) II C) III D) IV

12. 21 Mart'tan 21 Haziran'a kadar geçen sürede ülkemizde aşağıdaki durumlardan hangisi yaşanmaz?

- A) Yaz mevsimi sona erer.
B) Sıcaklık ortalamaları yükselir.
C) Güneş ışınlarının geliş açısı artar.
D) Gündüz sürelerinin uzunluğu artar.

13. Sıcaklığın yeryüzündeki dağılışı üzerinde aşağıdakilerden hangisinin etkisi daha azdır?

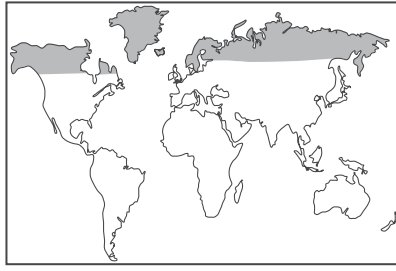
- A) Dünya'nın şeklinin
B) Yer'in eksen eğikliğinin
C) Dünya'nın günlük hareketinin
D) Dünya'nın yörüngedeki dönüş hızının

14. Güney Yarım Küre'de kış sıcaklık ortalamaları Kuzey Yarım Küre'den daha yüksektir.

Bu durum Güney Yarım Küre'nin hangi özelliğinin sonucudur?

- A) Nüfus miktarının daha az olmasının
B) Deniz ve okyanusların daha fazla alan kaplamasının
C) Mevsim sürelerinin farklılık göstermesinin
D) Yer şekillerinin çeşitlilik göstermesinin

15.



Haritada taranarak gösterilen alanda yetişen bitki türlerinin ortak özelliği aşağıdakilerden hangisidir?

- A) Soğuğa dayanıklıdır.
B) Kök sistemi gelişmiştir.
C) Her mevsim yağış ister.
D) Geniş yapraklıdır.

16. I. Yağış rejimi düzenlidir.
II. Bitki örtüsü yıl boyunca yeşil kalan gür ormanlardır.
III. Sıcaklık ortalamaları 20°C'nin altındadır.

Yukarıdakilerden hangileri ekvatorial iklimin özelliklerindedir?

- A) Yalnız I B) Yalnız III
C) I ve II D) II ve III

17. Ege Denizi'nin ortaya çıkışı, linyit, petrol ve tuz yataklarının oluşumu hangi jeolojik zamanda gerçekleşmiştir?

- A) Neozoik
B) Paleozoik
C) Mezozoik
D) Prekambrien

18. Nem miktarının fazla olduğu yerlerde mevsimlik sıcaklık farkları azdır.

Merkez	Ocak ayı sıcaklık ortalaması (°C)	Ağustos ayı sıcaklık ortalaması (°C)
I	5	27
II	18	25
III	2	28
IV	12	25

Buna göre, ocak ve ağustos aylarına ait sıcaklık ortalaması verilen merkezlerden hangisinde nem miktarı daha fazladır?

- A) I B) II C) III D) IV

19. Aşağıdaki dış kuvvetlerden hangisinin yeryüzünün şekillenmesindeki etkisi daha fazladır?

- A) Rüzgârlar B) Akarsular
C) Buzullar D) Dalgalar

20. I. Yamaçların eğim durumu
II. Yağış miktarı
III. Denizlere uzaklık

Heyelanların oluşmasında yukarıdakilerden hangileri etkilidir?

- A) Yalnız I B) Yalnız II
C) I ve II D) II ve III

(152) COĞRAFYA – 2

1. Aşağıdakilerden hangisi ülkemizde etkili olan rüzgârlardandır?

- A) Sirocco B) Hamsin
C) Mistral D) Lodos

2. I. Kayak turizmi
II. Madencilik
III. Ulaşım
IV. Tarım

Ülkemizdeki ovalardan yukarıdaki faaliyetlerden hangileri için yararlanılması daha uygun olur?

- A) I ve II B) I ve III
C) II ve IV D) III ve IV

3. Erciyes Dağı ve çevresinin ormanlarla kaplı olduğu ve bölgede keresteciliğin önemli bir iş sahası olduğu eski belgelerde belirtilmektedir. Bugün ise Erciyes Dağı ve çevresinin büyük bir kısmı bozkırlarla kaplıdır.

Yukarıdaki bilgiler aşağıdaki durumlardan hangisine kanıt olarak gösterilebilir?

- A) Ormanların tahrip edildiğine
B) Şehirleşme düzeyinin arttığına
C) Tarımsal faaliyetlerin önemini yitirdiğine
D) Halkın daha kârlı ekonomik faaliyetlere yöneldiğine

2. OTURUM

4.



Türkiye’de fay hatlarının dağılışı dikkate alındığında, haritada verilen şehirlerden hangisinde deprem riski daha azdır?

- A) İzmir B) Karaman
C) Erzincan D) Bolu

5. Kıyıdan iç kesimlere doğru gidildikçe nem oranı azalır ve buna bağlı olarak da sıcaklık farkları artar.

Buna göre, aşağıdaki şehirlerden hangisinde günlük ve yıllık sıcaklık farkı daha fazladır?

- A) Kırkkale B) Antalya
C) Aydın D) Zonguldak

6. Denizaşırı bölgelerle ticaret yapmaya başlanması aşağıdaki şehir türlerinden hangisinin oluşmasını sağlamıştır?

- A) İdari şehirlerin
B) Liman şehirlerinin
C) Turizm şehirlerinin
D) Sanayi şehirlerinin

7. Hayvancılık, ormancılık, balıkçılık ve arıcılık gibi ekonomik faaliyetleri beşerî coğrafyanın hangi dalı inceler?

- A) Siyasi coğrafya
B) Tarım coğrafyası
C) Sanayi coğrafyası
D) Yerleşme coğrafyası

8. Aşağıdaki şehir tiplerinden hangisi diğerlerinden daha sonraki dönemlerde ortaya çıkmıştır?

- A) Tarım şehirleri
B) Liman şehirleri
C) Ticaret şehirleri
D) Teknoloji şehirleri

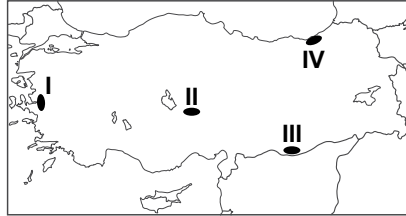
9. Aşağıdakilerden hangisi köy altı yerleşmelerine örnek olarak gösterilemez?

- A) Yayla B) Mezra
C) Kasaba D) Oba

10. Iğdır’ın Aralık ilçesi ile ilgili aşağıda verilen bilgilerden hangisi ilçenin beşerî bir özelliğidir?

- A) Ağrı Dağı’nın eteklerinde kurulmuştur.
B) Aras Nehri’nin kıyısında yer almaktadır.
C) Sınır ticareti halkın geçiminde önemlidir.
D) Türkiye’nin en doğusunda yer alan ilçedir.

11.



- Yer şekilleri engebelidir.
- Dağınık yerleşmeler yaygındır.
- Su kaynakları boldur.

Verilen özellikler haritada numaralandırılarak verilen yerlerden hangisine aittir?

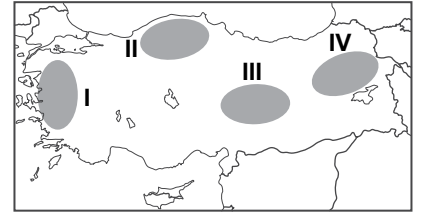
- A) I B) II C) III D) IV

12. Ayhan memleketi Van ile ilgili geniş çaplı bir araştırma yapmak istemektedir.

Ayhan’ın araştırma konuları ve bilgi toplamak istediği kurum eşleştirmelerinden hangisi yanlış verilmiştir?

- A) Yıllık yağış miktarı – Meteoroloji Müdürlüğü
B) Yıllık tahıl üretim miktarı – Orman Müdürlüğü
C) Aldığı ve verdiği göç miktarı – Nüfus Müdürlüğü
D) Ortaöğretime devam eden öğrenci sayısı – Milli Eğitim Müdürlüğü

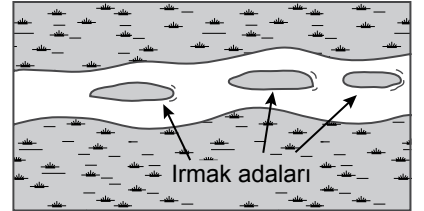
13.



Haritada numaralandırılarak verilen yerlerden hangisinde kırıklı yapıdaki dağlar yaygındır?

- A) I B) II C) III D) IV

14.



- I. Yatağın genişlemesi
II. Debinin artması
III. Eğimin azalması

Akarsular üzerinde görseldeki yer şekillerinin oluşabilmesi için numaralandırılmış durumlardan hangilerinin gerçekleşmesi gereklidir?

- A) Yalnız I B) Yalnız II
C) I ve III D) II ve III

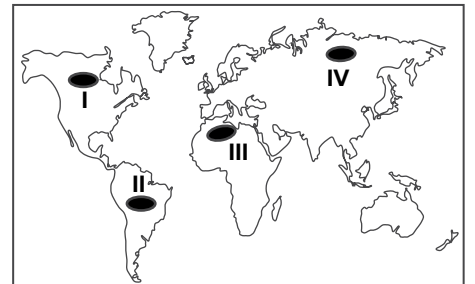
15.

- I. Dolin
II. Kıyı oku
III. Çöküntü ovası
IV. Falez

Yukarıdaki yer şekillerinden hangilerinin oluşumunda dalgalar etkilidir?

- A) I ve II B) I ve III
C) III ve IV D) II ve IV

16.



Haritada verilen yerlerden hangisi sürekli kuraklık yaşayan bölgeler içerisinde yer alır?

- A) I B) II C) III D) IV

2. OTURUM

17. Ülkemizde batıdan doğuya doğru gidildikçe sıcaklık ortalamaları azalır.

Bu durumun temel nedeni aşağıdakilerden hangisidir?

- A) Bakı
- B) Yükselti
- C) Bitki örtüsü
- D) Dağların uzanış yönü

18. Yıllık sıcaklık farkı Mersin'de 18°C civarındayken Kayseri'de 25°C civarındadır.

Kayseri'de yıllık sıcaklık farkının Mersin'den yüksek olmasında aşağıdakilerden hangisinin etkisi daha fazladır?

- A) Nem oranının
- B) Bakı durumunun
- C) Enlem farkının
- D) Basınç farkının

19. Avrupa Birliğine üye ülkelerin oluşturduğu yer Avrupa Birliği Bölgesi olarak kabul edilirse, aşağıdaki ülkelerden hangisi bu bölgenin dışında yer alır?

- A) Meksika
- B) Belçika
- C) İtalya
- D) Fransa

20. Aşağıdaki ülkelerden hangisi gelişmiş bölgeler sınıflandırması içerisine girmez?

- A) Almanya
- B) Japonya
- C) İngiltere
- D) Cezayir

(181) İNGİLİZCE – 1

1 - 19. sorularda boş bırakılan yere uygun gelen kelime veya ifadeyi işaretleyiniz.

1. **A: - - - - does your sister go abroad?**

B: Three times a year.

- A) How long
- B) How many
- C) How often
- D) How much

2. **Students - - - - study hard to pass the exam.**

- A) may
- B) should
- C) musn't
- D) couldn't

3. **A: The lights of their home are on.**

B: They - - - - be at home.

- A) must
- B) would
- C) shouldn't
- D) don't have to

4. **A: Do you like spending time outside?**

B: No, - - - - . I prefer being at home.


- A) I'm not
- B) I won't
- C) I can't
- D) I don't

5. **A: What are your brothers doing right now?**

B: - - - - .

- A) I like cooking very much
- B) They are preparing something to eat
- C) She is going to have a big breakfast with me
- D) He will go to swimming pool tomorrow afternoon

6.



There are four books - - - - the table.

- A) in
- B) at
- C) on
- D) of

7. **My sister lives in - - - - Paris.**

- A) the
- B) a
- C) an
- D) -

8. - - - - are my pencils not yours.

- A) That
- B) These
- C) This
- D) The

9. **I have got two daughters. - - - - names are Tuba and Kübra.**

- A) Her
- B) She
- C) They
- D) Their

10. **Ali is my brother and - - - - is an engineer.**

- A) she
- B) he
- C) it
- D) we

11. **When you see the red light, you - - - - stop. You can cross the road when it is green.**

- A) must
- B) will
- C) can
- D) may

12. **We - - - - live in a small village in the past.**

- A) used to
- B) can
- C) may
- D) must

13. **I - - - - visit my grandparents last weekend because I was ill.**

- A) don't
- B) hasn't
- C) didn't
- D) doesn't

14. **The sky is getting darker. It - - - - soon.**

- A) rains
- B) is raining
- C) was raining
- D) is going to rain

15. **It is cold here. I will - - - - the heating on.**

- A) give
- B) turn
- C) take
- D) come

2. OTURUM

(181) ALMANCA – 1

16. My elder sister - - - - have long black hair, but now she - - - - short blonde hair.

- A) are / used to have
B) are used to / is
C) uses / was
D) used to / has

17. I want to buy - - - - new trousers over there.

- A) an B) this
C) those D) that


18. Mum : Could you give milk to the cat?
Boy : Mum, I am sorry. We don't have - - - - milk to feed the cat.

- A) any B) many
C) some D) a few

19. I have got a son and - - - - is almost one year old.

- A) himself B) him
C) his D) he

20. Aşağıda verilen görseli ifade eden seçeneği işaretleyiniz.



- A) Take the third right.
B) Take the second right.
C) Turn left at the traffic light.
D) Turn right at the traffic light.

1. Aşağıda verilen sıfatlardan hangisinin çekimi yanlıştır?

	Positiv	Komparativ	Superlativ
A)	gut	guter	am gutesten
B)	lang	länger	am längsten
C)	viel	mehr	am meisten
D)	klein	kleiner	am kleinsten

2. Aşağıdakilerden hangisi anlamca diğerlerinden farklıdır?

- A) Schule B) Schultasche
C) Schuhe D) Schüler

3. Aşağıdaki sıfatların hangisinde zıt anlamı doğru verilmiştir?

- A) kurz x schön
B) schnell x langsam
C) viel x besser
D) groß x lang

4 - 20. sorularda boş bırakılan yere uygun gelen kelime veya ifadeyi işaretleyiniz.

4. Januar, Februar, - - - -

- A) April B) Mai
C) März D) Dezember

5. Mittwoch, Donnerstag, - - - -

- A) Samstag B) Freitag
C) Sonntag D) Dienstag

6. 26, 27, - - - -

- A) achtzehn
B) achtunddreißig
C) achtzig
D) achtundzwanzig

7. A: Wie war der Film?

B: - - - - war sehr interessant.

- A) Er B) Sie C) Es D) Die

8. A: Mit - - - - sprichst du am Telefon?

B: Mit Gülay.

- A) wer B) wem
C) wie D) was

9. A: Hallo, ich bin Mustafa. Wer - - - - du?

B: Ich - - - - Klaus.

- A) ist / bist B) bin / bist
C) sein / ist D) bist / bin

10. A: Wann gehst du zum Arzt?

B: - - - - 13.00 Uhr.

- A) Am B) Im C) Um D) Bis

11.




A: Ist das ein Vogel?

B: Nein, das ist - - - - Hund .

- A) ein B) eine
C) eines D) einer

12.



A: Wie spät ist es?

B: Es ist zehn - - - - elf.

- A) nach B) Viertel
C) vor D) halb

13. Hallo Sibel, ich habe heute - - - - Vater in der Schule gesehen.

- A) dein B) deinen
C) deine D) deiner

2. OTURUM

(181) FRANSIZCA – 1

1 - 16. sorularda boş bırakılan yere uygun gelen kelime veya ifadeyi işaretleyiniz.

14.



Der Hund ist - - - - dem Baum.

- A) unter B) zwischen
C) neben D) hinter

15. Unser Lehrer sagt, - - - - wir am Montag eine Prüfung schreiben.

- A) denn B) weil
C) aber D) dass

16. Helga ist 15 Jahre alt. Sibel ist 16 Jahre alt. Helga ist - - - - als Sibel.

- A) älter
B) genauso alt
C) genauso jung
D) jünger

17. Sie ist mein- - - - - Schwester. - - - - heißt Claudia.

- A) -e / Sie B) -er / Er
C) -es / Es D) -- / Ihr

18. A: - - - - ihr heute Sportunterricht?
B: Nein, wir - - - - morgen Sportunterricht.

- A) Hast / habe
B) Haben / habe
C) Habe / habe
D) Habt / haben

19. A: - - - - Schüler seid ihr in der Klasse?
B: Wir sind 28 Schüler.

- A) Wie viel B) Wohin
C) Warum D) Womit

20. A: - - - - ?
B: Ins Restaurant.

- A) Was möchtest du essen?
B) Wohin geht ihr?
C) Wie spät ist es?
D) Hast du Hunger?

1. A: Ali est marié?
B: Non, - - - - .

- A) elle est morte
B) il est jeune
C) il est divorcé
D) elle est grande

2. Si nous étions en été, il - - - - chaud.

- A) a fait B) ferait
C) ont fait D) faisait

3. Si tu veux, nous - - - - ensemble avant d'aller au concert.

- A) mangerons
B) avions mangé
C) mangerions
D) aviez mangé

4. A: Vous écoutez les informations à la radio?
B: Non, je - - - - les informations à la radio.

- A) n'écotent pas
B) n'écoute pas
C) ne pas écouter
D) écouter

5. A: Tu as déjà vu le Mont Nemrut?
B: Non, je ne - - - - ai pas vu.

- A) le (l') B) lui
C) la (l') D) leur

6. A: Tu aimes la danse africaine?
B: Oui, je - - - - aime bien.

- A) les B) le (l')
C) la (l') D) des

7. A: Est-ce qu'il y a de l'eau fraîche dans le frigo?
B: Non, il n'y a pas - - - - eau fraîche dans le frigo.

- A) des B) de la
C) du D) de (d')

8. Un peigne sert à - - - - .

- A) lire
B) dormir
C) se coiffer
D) se brosser les dents

9. - - - - aiment la cuisine chinoise.

- A) Elle B) Nous
C) Ils D) Vous

10. Hier soir, - - - - a dîné au restaurant.

- A) elles B) tu
C) je D) il

11. Sibel et Melek - - - - en Espagne par avion avec la compagnie Turkish Airlines.

- A) sont arrivées
B) sont arrivés
C) êtes arrivés
D) sommes arrivés

12. Samedi dernier, ma fille - - - - acheté le nouveau CD de Candan Erçetin.

- A) as B) a C) es D) est

13. Les élèves - - - - sortis de la cantine.

- A) sont B) ont
C) est D) êtes

14. Canan a passé - - - - à Sinop.

- A) le visage B) la rue
C) les yeux D) les vacances

15. Le bébé du voisin a pleuré - - - - la nuit.

- A) personne B) chaque
C) toute D) aucun

2. OTURUM

16. J'ai - - - - professeur d'anglais que l'an dernier.

- A) les mêmes B) certaine
C) les autres D) le même


17. (I) Elle est souriante. (II) Elle continue tout droit. (III) Elle a les yeux bleus. (IV) Elle porte des lunettes.

Bu metinde numaralanmış cümlelerden hangisi anlam bütünlüğünü bozmaktadır?

- A) I B) II C) III D) IV

18, 19 ve 20. sorularda verilen resme göre doğru ifadenin bulunduğu seçeneği işaretleyiniz.

18.



- A) Elle a les cheveux raides et elle porte un collier de perles.
B) Elle a les cheveux frisés et elle porte un tee-shirt.
C) Elle a les cheveux longs et elle porte une veste.
D) Elle a un chapeau et elle porte des lunettes.

19.



Elle est très - - - - .

- A) sportive B) gentil
C) souriant D) paresseuse

20.



Il a un nez - - - - .

- A) ovale B) droite
C) longue D) épaté

(182) İNGİLİZCE – 2

1 - 20. sorularda boş bırakılan yere uygun gelen kelime veya ifadeyi işaretleyiniz.

1. Gina to Mike : "Don't drive fast."

Gina told Alper - - - - fast.

- A) drives B) driving
C) to drive D) not to drive

2. Jake : "It is cold here."

Jake said that it was cold - - - - .

- A) then B) there
C) here D) now

3. I wish - - - - . So, I would buy a new car.

- A) he would stop making noise
B) you were on holiday now
C) I had much more money
D) she cleaned the house

4. If you leave metal out in the rain, - - - - .

- A) it gets rusty
B) it would melt
C) it became hard
D) it could be broken

5. They haven't gone out - - - - last Friday.

- A) for B) yet
C) since D) then

6. My father has flown just two times - - - - .

- A) up to now B) already
C) since D) for

7. - - - - Murat was working abroad, his daughter was born.

- A) How B) Which
C) Where D) While

8. Zeynep was walking - - - - inside the room. So the baby didn't wake up.

- A) loudly B) silently
C) loud D) silent

9. My students' English exam scores are - - - - than Maths exam.

- A) better B) best
C) good D) the best

10. Emin is - - - - student in the class.

- A) clever
B) less clever
C) the most clever
D) more clever than

11. They can paint their flat - - - - .

- A) myself B) yourself
C) ourselves D) themselves

12. The broken doors - - - - by my father at the moment.

- A) was repaired
B) could be repaired
C) are being repaired
D) were being repaired

13. A: What about - - - - something unusual? For example, watching a horror film.

B: Yes, it is a good idea.

- A) doing B) done
C) did D) do

2. OTURUM

14. I like to prefer - - - - at home rather than to go out with them.

- A) stay B) to stay
C) staying D) have stayed

15. Have you ever - - - - avocado?

- A) taste B) tasted
C) to taste D) will taste

16. When I was younger, I was afraid of - - - - a bike.

- A) ride B) rode
C) riding D) to ride

17. They were - - - - to their hotel last night.

- A) taken B) eaten
C) broken D) told

18. The door - - - - yesterday morning.

- A) has been broken
B) will be broken
C) was broken
D) is broken

19. Hans comes from Germany, - - - - ?

- A) isn't he B) won't he
C) didn't he D) doesn't he

20. Let's watch a movie, - - - - ?

- A) shall you B) shall we
C) will you D) will we

(182) ALMANCA – 2

1. Aşağıdaki sözcüklerden hangisi anlamca diğerlerinden farklıdır?

- A) Bleistift B) Kugelschreiber
C) Heft D) Buntstift

2. Aşağıdakilerden hangisi fiildir? (Verb)

- A) sitzen B) rot
C) klein D) kalt

3. "trinken" fiilinin "Perfekt" hali aşağıdakilerden hangisidir?


- A) trank B) trinke
C) trinkt D) getrunken

4. Kurallı bir cümle oluşturunuz.

kauft / neue / Schuhe / heute
1 2 3 4
/ Ali
5

- A) 3 / 4 / 5 / 2 / 1
B) 5 / 1 / 4 / 2 / 3
C) 4 / 3 / 5 / 1 / 2
D) 5 / 4 / 2 / 3 / 1

5.



Resimdeki adam ne yapıyor?

- A) Der Mann reitet.
B) Der Mann schreibt einen Brief.
C) Der Mann spielt Fußball.
D) Der Mann liest ein Buch.

6 - 20. sorularda boş bırakılan yere uygun gelen kelime veya ifadeyi işaretleyiniz.

6.



A: Was macht der Mann?
B: Er - - - - .

- A) schwimmt B) schläft
C) läuft D) reitet

7. A: Wo sind meine Schlüssel?
B: Sie hängen an - - - - Wand.

- A) der B) die C) das D) dem

8. A: - - - - spielst du Fußball?
B: Seit 10 Jahren.

- A) Bis wann B) Seit wann
C) Mit wem D) Woher

9. Der Junge, - - - - schwarze Haare hat, ist ein Türke.

- A) der B) die C) das D) den

10. Hasan und Helga - - - - Schach.

- A) spiele B) spielt
C) spielst D) spielen

11. - - - - Auto gefällt dir am meisten? (Das)

- A) Welches B) Welcher
C) Welche D) Welchen

12. Er - - - - einen Roman. (schreiben - Präteritum)

- A) schreiben
B) schrieb
C) geschrieben
D) schreibt

13. Ich lernte lesen und schreiben, - - - - ich in der Grundschule war.

- A) weil B) denn
C) als D) aber

14. Frau Schmidt ladet - - - - Freunde zum Essen ein.

- A) sein B) seine
C) ihr D) ihre

15. Der Lehrer hat gesagt, - - - - morgen keine Schule ist.


- A) dass B) ist
C) weil D) denn

16. Ich frühstücke jeden Morgen - - - - 7.00 Uhr.

- A) am B) um C) im D) beim

2. OTURUM

17.



**A: Wo - - - - der Mann?
B: Im Schwimmbad.**

- A) schwimmen
B) schwimmt
C) schwimme
D) schwimmst

18. - - - - Kleid ist billiger?

- A) Welcher B) Welchem
C) Welche D) Welches

19.



**Wie spät ist es?
Es ist - - - - .**

- A) Viertel nach drei
B) Viertel vor drei
C) Viertel vor vier
D) Viertel nach vier

20. Alle Schüler - - - - nächste Woche zum Museum gehen.

- A) wird B) werde
C) wirst D) werden

(182) FRANSIZCA – 2

1 - 17. sorularda boş bırakılan yere uygun gelen kelime veya ifadeyi işaretleyiniz.

1. - - - - vendredi et dimanche c'est samedi.

- A) Dans B) Sous
C) Entre D) Sur

2. Ma fille fait des gâteaux - - - - sont délicieux.

- A) qui B) dont
C) que D) ce qui

3. Metin - - - - huit heures par nuit.

- A) dors B) as dormi
C) dort D) dormir

4. **A: Quand est-ce que tu es arrivé à Ankara ?**

B: Je suis arrivé à Ankara - - - - cinq mois.

- A) dans B) en
C) depuis D) il y a

5. **A: Pourquoi va-t-elle chez le médecin?**

B: Parce qu'elle a mal à - - - - .

- A) la fête B) la tête
C) le cou D) le bras droit

6. **A: Quand sort le directeur de la banque?**

B: Il - - - - sort à sept heures.

- A) des B) de C) en D) y

7. **A: D'où viens-tu?**

B: Je viens - - - - Italie.

- A) des B) du
C) la D) de(d')

8. **A: Tu déjeunes à la cantine ?**

B: Non, je n' - - - - déjeune pas. Je rentre chez moi.

- A) y B) aux
C) de D) en

9. **A: Vous mangez des hamburgers?**

B: Non, nous n' - - - - mangeons pas.

- A) de la B) en
C) y D) au

10. La bicyclette est - - - - chère que la voiture.

- A) autant B) aussi
C) moins D) plus

11. - - - - va toujours à l'école en bus.

- A) Ils B) Vous
C) Il D) Nous

12. **J'ai mis du café dans ma tasse, - - - - je ne l'ai pas bu.**

- A) mais B) où
C) en D) aux

13. - - - - il est malade, il ne sortira pas ce soir.

- A) Combien
B) Puisque (Puisqu')
C) Ce que
D) Comment

14. **C'est à Paris - - - - Selim habite depuis deux ans.**

- A) donc B) qui
C) ce que D) que

15. **Je vais à mon travail en voiture - - - - en taxi.**

- A) donc B) mais
C) car D) ou

16. **Montre-moi l'ordinateur - - - - tu as acheté.**

- A) où B) que
C) qui D) ce que

17. **L'été dernier, nous avons passé de très bonnes vacances - - - - Italie - - - - Rome.**

- A) en / à B) en / de
C) au / à D) aux / en

18. **"Güher- Süher Pekinel qui jouent du piano ensemble, sont deux sœurs jumelles." cümlesinde altı çizili sözcüklerin yerine aşağıdaki şahıs zamirlerinden hangisi konulabilir?**

- A) Elle B) Elles
C) Il D) Nous

2. OTURUM

19.



Verilen resme göre cümlede boş bırakılan kısmı tamamlayan ifadenin bulunduğu seçeneği işaretleyiniz.

Elle fait - - - -.

- A) de la marche
- B) de la peinture
- C) du ski nautique
- D) de la luge

20.



Bu trafik işaretinin anlamı nedir?

- A) Circulation dans les deux sens
- B) Annonce de feux tricolores
- C) Endroit fréquenté par des enfants
- D) Passage pour piétons

(207) PSİKOLOJİ – 2

1. Aşağıdakilerden hangisi normal zekâ düzeyini gösterir?

- A) 0-24
- B) 90-110
- C) 121-140
- D) 140 ve üzeri

2. Aynı çevrede yetişen aynı yumurta ikizlerinin zekaları arasında %88 düzeyinde bir ilişki olduğu, farklı çevrede yetişen aynı yumurta ikizlerindeki zeka düzeyleri arasındaki ilişkinin ise %63'e kadar düştüğü gözlemlenmiştir.

Farklı çevrede yetişen aynı yumurta ikizlerinin zekaları arasındaki fark aşağıdakilerden hangisiyle açıklanır?

- A) Zekada kalıtım ve çevrenin aynı oranda etkisinin olduğu
- B) Zeka üzerinde tek belirleyicinin kalıtım olduğu
- C) Zeka üzerinde çevrenin etkisinin olduğu
- D) Zekada kalıtımın etkisinin yokluğu

3. Aşağıdakilerden hangisinde zekanın payı en azdır?

- A) Bir olayı yorumlamada
- B) Düşüncelerin tutarlılığında
- C) Sayılarla işlem yapabilmede
- D) Gol attığımızda sevinmede

4. Bir kişinin kısa aralıklarla uygulanan zeka testlerinden birbirine çok yakın puan alması yapılan testin hangi özelliğiyle ilgilidir?

- A) Testin yönergesine göre uygulanması
- B) Testin standardizasyonu
- C) Testin güvenilirliği
- D) Testin geçerliliği

5. Özel yeteneklerle ilgili aşağıda verilen yargılardan hangisi yanlıştır?

- A) İnsanlar arasında yetenekler bakımından farklılık yoktur.
- B) Bireyler bir alanda yetenekleri ölçüsünde başarılı olur.
- C) Yetenekler, uygun çevre koşullarında gelişebilir.
- D) Bir alandaki yetenek başarılı işle anlaşılır.

6. Mizaç insanın yaratılışına bağlı doğuştan getirilen fizyolojik kaynaklı tutumlardır, zamanla pek değişmeyen kişilik özellikleridir.

Buna göre aşağıdakilerden hangisi "mizaca" örnektir?

- A) Özü sözü bir olma
- B) Yardımseverlik
- C) Dürüstlük
- D) Tezcanlılık

7. Kişiliğin, belirli uyarımlar karşısında öğrenilmiş, pekiştirilmiş, benimsenmiş davranışlardan meydana geldiğini savunan kişilik kuramı hangisidir?

- A) Öğrenme kuramları
- B) Psikodinamik kuramlar
- C) Temel eğilim kuramları
- D) Varoluşçu kuramlar

8. Aşağıdakilerden hangisi kişiliğin oluşumunda en az etkilidir?

- A) Çevre
- B) Kalıtım
- C) Refleksler
- D) Yetenekler

9. Bireyin iç dünyasını dışa yansıtmak amaçlı, kişiye cümle, hikaye tamamlattırılıp, bazı resimlerin gösterilerek yorumlanması şeklinde uygulanan kişilik testi aşağıdakilerden hangisidir?

- A) Projektif testler
- B) Görüşme
- C) Anketler
- D) Değerlendirme ölçekleri

10. Aşağıdakilerden hangisi ruh sağlığı yerinde olan bireylerden beklenen davranış değildir?

- A) Sorunlara gerçekçi çözüm arama
- B) Sorunlarını görmezden gelme
- C) Hedeflerinde gerçekçi olma
- D) Yetersiz kaldığı durumlarda yardım isteme

11. Havanın yağmurlu olması sebebiyle önceden kararlaştırılan okul gezisinin iptal edilmesi durumunda yaşanan psikolojik durum aşağıdakilerden hangisidir?

- A) Çatışma
- B) Hayal kırıklığı
- C) Dengelenme
- D) Kararsızlık

12. Tatlı yemeyi seven birinin kilo almaktan korkması aşağıdakilerden hangisine örnek oluşturur?

- A) Yaklaşma-yaklaşma çatışmasına
- B) Kaçınma-kaçınma çatışmasına
- C) Yaklaşma-kaçınma çatışmasına
- D) Bastırma savunma mekanizmasına

13. Aşağıdakilerden hangisi stresle başetme yöntemlerinden değildir?

- A) Sakin olmayı öğrenme
- B) Kendisi için zaman ayırma
- C) Zamana karşı yarışa girmeme
- D) Çeşitli konularda aşırı derecede hırslı olma

2. OTURUM

14. Kardeşini sevmeyen kıskanan bir çocuğun, ayıplanma ve suçluluk duygusundan kurtulmak için kardeşine sürekli sevgi gösterisinde bulunması aşağıda verilen savunma mekanizmalarından hangisi ile açıklanır?

- A) Yüceltme
- B) Mantiğa bürünme
- C) Karşıt tepki geliştirme
- D) Özdeşim kurma

15. Yaşantının bir bölümünün veya tümünün unutulmasıdır. Birey kazandığı beceriler dışında adını, kimliğini, her şeyini unutabilir.

Özellikleri verilen nevrotik bozukluk aşağıdakilerden hangisidir?

- A) Bellek yitimi
- B) Çoklu kişilik
- C) Obsesyon
- D) Fobi

16. İlgı ve yeteneklerine uygun iş imkânları verilerek, hastanın iç dünyası boşaltılıp, yaptığı eserle kişinin üstünlük duyguları geliştirilmesi sağlanır.

Açıklaması verilen anormal davranışın tedavi yöntemi hangisidir?

- A) Grup terapisi
- B) Psikodrama
- C) Narkoanaliz
- D) İş terapisi

17. Sosyal çevre tarafından etkilenen bireyin davranışlarını inceleyen bilim dalı aşağıdakilerden hangisidir?

- A) Sosyal psikoloji
- B) Coğrafya
- C) Ekonomi
- D) Tarih

18. Kişinin beğenmediği bir romanı sınıftaki arkadaşlarının romanından övgüyle bahsetmesiyle beğendiğini söylemesi, aşağıdakilerden hangisiyle açıklanabilir?

- A) Sosyal statü
- B) Sosyal etki
- C) Algıda seçicilik
- D) Engellenme

19. Aşağıdakilerden hangisi demokratik liderden beklenen bir davranıştır?

- A) Kararları tek başına alması
- B) Görevini grubun ortak iradesinden alması
- C) Kendini grubun tek hakimi olarak görmesi
- D) Grup üyeleriyle arasındaki ilişkiyi sınırlı tutması

20. Aşağıdakilerden hangisi bireyin "uyuma" davranışını artıran faktörlerden değildir?

- A) Grubu oluşturanların sayısının artması
- B) İlişkilerin yüz yüze olması
- C) Grupta saygın ve uzman kişilerin varlığı
- D) Grupta bir konuda farklı görüşlerin olması

(208) SOSYOLOJİ – 1

1. Toplumsal olay; toplumsal ilişkiler sonucunda tek tek ortaya çıkan yeri ve zamanı belirli değişimlerdir.

Buna göre, aşağıdakilerden hangisi toplumsal olaya örnektir?

- A) Savaş
- B) Evlilik
- C) Seçim
- D) İstanbul'un fethi

2. Aşağıdakilerden hangisi toplumu ve toplumsal ilişkileri konu edinen sosyolojinin inceleme alanına girmez?

- A) Bireyin davranışlarının nedenleri
- B) Toplumsal ilişkiler ve nedenleri
- C) Toplumsal değişim süreçleri
- D) Coğrafi özelliklerin toplumsal yaşama etkileri

3. Fiziksel olarak bir arada olmayan, aralarında ilişki bulunmayan insanların ortak bir takım özelliklere göre gruplandırılmasına toplumsal kategori denir.

Buna göre, aşağıdakilerden hangisi toplumsal kategori değildir?

- A) Okul çağına gelen çocuklar
- B) Miting alanında toplananlar
- C) Aynı meslekte olanlar
- D) Evliler

4. Bir toplumun geçmişten günümüze geçirmiş olduğu değişim süreçlerini bilmek, araştırılan toplumun anlaşılmasını kolaylaştırır.

Buna göre sosyoloji aşağıdaki bilimlerden hangisiyle ilişki kurmalıdır?

- A) Antropoloji
- B) Coğrafya
- C) Hukuk
- D) Tarih

5. • Kiminle aynı sırada oturmak istersiniz?
• Kendinizi kime yakın hissediyorsunuz?
• Sınıfta davranışlarından hoşlanmadığınız kişi kimdir?

Verilenler sosyolojide veri toplama tekniklerinden hangisiyle ilgilidir?

- A) Görüşme
- B) Monografi
- C) Sosyometri
- D) Olay incelemesi

6. Sosyolog, araştırmalarında olanı olduğu gibi ortaya koyup, değer yargılarını, beklentilerini, duygularını işe karıştırmama çabası içinde olmalıdır.

Buna göre sosyologun bilimsel çalışmalarda uyması gereken ilke aşağıdakilerden hangisidir?

- A) Objektiflik ilkesi
- B) Somutluk ilkesi
- C) Nedensellik ilkesi
- D) Konunun sınırlandırılması ilkesi

7. I. Özelden - özele doğru
II. Özelden - genele doğru
III. Genelden - özele doğru

Verilenlerden tümdengelim akıl yürütme türünde zihnin işleyişi aşağıdakilerden hangisinde verilmiştir?

- A) Yalnız II
- B) I ve II
- C) Yalnız III
- D) II ve III

8. İçinde toplumsal ilişkilerin, olayların olduğu, toplumsal grupların, kurumların yer aldığı, nüfus ile yerleşim tarzının biçimlendiği toplumsal varlık aşağıdakilerden hangisiyle ifade edilir?

- A) Toplumsal grup
- B) Toplumsal yapı
- C) Toplumsal statü
- D) Toplumsal kurum

2. OTURUM

9. İki ailenin birbirine gidip gelmesi aşağıdaki ilişki türlerinden hangisini örnekendirir?

- A) Birey - birey ilişkisi
- B) Birey - grup ilişkisi
- C) Grup - birey ilişkisi
- D) Grup - grup ilişkisi

10. Avukatlık yapan birinin daha sonra savcı olması durumunda, avukatlık mesleğinde edindiği bilgilerinin savcılık mesleğini kolaylaştırması aşağıdakilerden hangisine örnektir?

- A) Rol pekiştirmesi
- B) Anahtar statü
- C) Rol çatışması
- D) Toplumsal prestij

11. Bir toplumda, eve gelen bir konuğa yemek yeme konusunda ısrar etmek normal karşılanırken, başka bir toplumda ise yemek yeme konusunda ısrar etmek anormal karşılanabilmektedir.

Verilen örnek sosyal değerlerin hangi özelliğini açıklamaktadır?

- A) Toplumsal ilişkilerin düzenleyicilerinden olması
- B) Bazı değerlerin zamanla işlevini yitirmesi
- C) Toplumun çoğunluğu tarafından bilinmesi
- D) Toplumdan topluma farklılık göstermesi

12. Bir toplumda işsizliğin artması, adaletsiz gelir dağılımının olması, hızlı toplumsal değişikliklerin meydana gelmesi aşağıdakilerden hangisine sebep olur?

- A) Örf ve adetlerin toplumda yaygınlaşmasına
- B) Olumsuz toplumsal sapmaya
- C) Toplumsal bütünleşmeye
- D) Rol çatışmasına

13. Aşağıdakilerden hangisi toplumsal gruba örnektir?

- A) Sokakta gezenler
- B) Konser dinleyenler
- C) Kırmızı ışıkta bekleyenler
- D) Aynı sınıfta okuyan öğrenciler

14. Aşağıdakilerden hangisi bireyin kendi iradesi dışında katıldığı toplumsal gruplardandır?

- A) Ulus
- B) Dernek
- C) Siyasi parti
- D) Arkadaş grubu

15. Aşağıdakilerden hangisi köy toplumsal yapısının özelliklerindedir?

- A) Teknik işbölümü ve uzmanlaşmanın gelişmiş olması
- B) Ekonomisinin sanayi ticaret ve hizmete dayanması
- C) Birincil toplumsal ilişkilerin hakim olması
- D) Nüfus yapısının heterojen olması

16. I. Zengin bir hatıra mirasına sahip olma
II. Birlikte yaşama isteğine olumsuz bakma
III. Tarihsel mirası sahiplenip, bunu sürdürmede ortak iradeye sahip olma

Yukarıda verilenlerden hangileri Atatürk'ün millet anlayışında yer alır?

- A) I ve II
- B) II ve III
- C) I ve III
- D) I, II ve III

17. • Toprak birliği
• Soy birliği
• Dil birliği

Verilenler aşağıdakilerden hangisini meydana getiren unsurlardandır?

- A) Kentleşmeyi
- B) Milleti
- C) Toplumsal hareketliliği
- D) Yazılı hukuk kurallarını

18. Bireylerin toplum içinde, belirli ölçütler göz önüne alınarak hiyerarşik olarak derecelendirilmesidir. Bu derecelendirme bir farklılaşmayı, veya eşitsizliği ifade eder.

Açıklaması verilen kavram hangisidir?

- A) Toplumsal hareketlilik
- B) Toplumsal tabakalaşma
- C) Toplumsal yığın
- D) Toplumsal norm

19. Kast ve kölelik sisteminde tabakalar arası geçiş yapmak mümkün olmayıp, bireylerin hangi tabakada yer alacağı doğumla belirlenmiştir.

Verilen açıklama aşağıdakilerden hangisinin özelliklerindedir?

- A) Yarı kapalı tabakalaşma
- B) Açık sınıf tabakalaşması
- C) Kapalı tabakalaşma
- D) Toplumsal dikey hareketlilik

20. Bir kurumdaki memurun zamanla kurumun yöneticisi konumuna yükselmesi aşağıdaki kavramlardan hangisiyle açıklanır?

- A) Dikey hareketlilik
- B) Yatay hareketlilik
- C) Toplumsal sapma
- D) Kapalı tabakalaşma

(401) DİL VE ANLATIM – 1

1. İletişimde dört temel öge bulunur. Bu ögeler şunlardır: Kaynak, ----, ----, ----.

Bu parçada boş bırakılan yerlere aşağıdakilerden hangisi getirilemez?

- A) alıcı
- B) mesaj
- C) işaret
- D) ortam

2. Dilin en önemli niteliği toplumdaki insanlar arasında anlaşma sağlayan sosyal bir kurum olmasıdır. Kendine göre birtakım yasaları vardır. İhtiyaçlar doğrultusunda yeni sözcükler türetilir. Kullanılan bazı sözcükler anlam kaymasına uğrar, kullanılmayanlar unutulup gider.

Bu parçadan dille ilgili aşağıdakilerden hangisi çıkarılamaz?

- A) Canlı bir varlık olduğu
- B) Millî birliğin oluşmasına katkı sağladığı
- C) Belirli kuralları olduğu
- D) İnsanlar arasında iletişimi sağladığı

2. OTURUM

3. Bir dilin alt bölümleri ----, ---- ve ---- olarak adlandırılır.

Bu cümlede boş bırakılan yerlere aşağıdakilerden hangisi getirilemez?

- A) şive B) ağız
C) bağlam D) lehçe

4. Aşağıdaki cümlelerin hangisinde bilgi yanlışı vardır?

- A) Toplumların yüzyıllar boyu maddi ve manevi alanda ürettiği eserler, gelecek kuşaklara dil sayesinde aktarılır.
B) Konuşma ve yazı dili birbirinden bağımsız gelişir.
C) Toplumların yaşam biçimleri, gelenek-görenekleri, kullandıkları araç-gereçler, inançları, dili, sanat anlayışı vb. kültürü oluşturur.
D) Yazı dilinde noktalama işaretlerine ve yazım kurallarına dikkat edilir.

5. Aşağıdaki sözcüklerden hangisi küçük ünlü uyumuna uymaz?

- A) Çamurluk B) Eldiven
C) Süresiz D) Okullar

6. Gelinmiyor akşam zaman kaplanı Kaçmıştım yeni bir ırmak şeklinde

Bu dizelerde aşağıdaki ses olaylarından hangisi yoktur?

- A) Ünlü daralması (Orta hece ünlüsünün değişmesi)
B) Ünlü düşmesi
C) Ünsüz benzeşmesi
D) Ünsüz yumuşaması

7. Aşağıdaki cümlelerdeki altı çizili sözcüklerden hangisi Türkçenin ses özelliklerine uyar?

- A) İbrahim Kâhya aşılı ağaçları tek tek kontrol etti.
B) Yüzünün süzgün güzelliği güneşle yarışa kalkmıştı.
C) Jandarmalar tutanağı suçluya imzalattılar.
D) Başhekim, "Yo hayır, o benim ailemendir." dedi.

8. Aşağıdaki cümlelerin hangisinde "ki" nin yazımıyla ilgili bir yanlışlık yapılmıştır?

- A) Beni öyle bunalttığı şehri terk etmek istedim.
B) Oysaki tüm insanların özünde iyi olduğunu düşünürdüm.
C) Hayat her zaman beklentilerini karşılamaz ki.
D) Teknik direktör sabahki antrenmana katılmayacağını söyledi.

9. I. Binanın kapısının kepenkleri çekilmişti, pencereler de perdesizdi.
II. Bana sırrını açıklayınca, tuhaf bir durumdu bu, birden rahatlamıştı.
III. Yüreğinin hızına uyarak pencereye, kapıya, tekrar pencereye koşup dışarıya baktı.
IV. Kasaba aydınları, onlara aydın denebilirse, genelleşmiş yargılarla konuşuyordu.

Yukarıda numaralanmış cümlelerin hangilerinde virgöl aynı işlevde kullanılmıştır?

- A) I ve III. B) I ve IV.
C) II ve III. D) II ve IV.

10. Aşağıdaki cümlelerden hangisinin sonuna soru işareti (?) getirilemez?

- A) Komutan olmak, herkesin sorumluluğunu taşımak kolay mı
B) Nerelerde yüzüyorsun sen şimdi ey ulu deniz kızı
C) Bu durumda nasıl böyle çocukça davranışlar sergiliyorsun
D) Baytemir'in buraya ne zaman uğradığını hatırlamıyorum

11. • Sözcüklerin birbirleriyle olan ilişkilerini, cümledeki görevlerini ve durumlarını inceleyen bilim dalına ---- denir.
• Sözcükleri anlam yönüyle inceleyen bilim dalına ---- denir.
• Sözcükleri yapı yönünden inceleyerek kök ve eklerin yapısını belirleyen bilim dalına ---- denir.

Aşağıdakilerden hangisi bu cümlelerde boş bırakılan yerlerden birine getirilemez?

- A) köken bilim
B) anlam bilim
C) cümle bilgisi
D) biçim bilgisi

12. Aşağıdaki karşılaştırmalardan hangisi yanlıştır?

- A) Tek heceli diller ek almaz, eklemeli diller ek alabilir.
B) Çekimli dillerde sözcüğün çekimi sırasında kök değişebilirken tek heceli dillerde böyle bir durum söz konusu değildir.
C) Eklemeli dillerde yeni ekler aldığında sözcüğün kökü değişmezken çekimli dillerde değişir.
D) Eklemeli (bitişken) diller ek alabilirken çekimli (bükümlü) diller ek almaz.

13.

Dil	Dil ailesi
I. Farsça	Hami-Sami
II. Tibetçe	Çin
III. Moğolca	Ural-Altay
IV. İbranice	Bantu

Yukarıda numaralanmış dil ve dil ailesi eşleştirmelerinden hangisi yanlıştır?

- A) I ve III. B) I ve IV.
C) II ve III. D) II ve IV.

14. Eser 12. yüzyılın sonu ile 13. yüzyılın başında Edip Ahmet tarafından yazılmıştır. Ahlaki, öğretici tarzda yazılmış olan eser dörtlüklerden ve beyitlerden oluşmuştur.

Bu parçada tanıtılan eser aşağıdakilerden hangisidir?

- A) Atabetü'l Hakayık
B) Divan-ı Hikmet
C) Divanü Lügat'it Türk
D) Kutadgu Bilig

2. OTURUM

15. Aşağıdaki cümlelerin hangisinde altı çizili sözcüğün büyük ünlü uyumuna uymama nedeni diğerlerinden farklıdır?

- A) Karşı taraftaki dükkânın malları daha kaliteliydi.
- B) Doktorun karısı misafirleri karşılarken oldukça memnundu.
- C) Dışarıda binanın önünde küçük bir kalabalık vardı.
- D) Gemi, dalgaları yara yara kuzeye doğru hızla ilerliyor.

16. Aşağıdaki dizelerin hangisinde ünsüz yumuşamasına uğrayan bir sözcük vardır?

- A) Geçtiler mini mini ayaklar üzerinden.
- B) Medeniyet şimşeğinden gelir hızımız.
- C) Ben her akşam dolaşırdım bu yeşil sahilde.
- D) Hülyalı gözleriyle engin bir ufka dalar.

17. Aşağıdaki dizelerde altı çizili sözcüklerin hangisinde ünlü düşmesi vardır?

- A) Saçaklarında her akşam fısıldaşır kuşlar.
- B) Ümidimin aradım her tarafta izlerini.
- C) Başım gökte, alnım açık gezirim.
- D) Felaketler pençemizde oyuncak olur.

18. Aşağıdaki cümlelerin hangisinde yazım yanlışı vardır?

- A) 11 Ocak pazartesi günü toplantı yapılacaktır.
- B) Tahsin Bey, şiir okumayı çok seviyormuş.
- C) Yazık ki bu çocuklar sesini duyuramıyor.
- D) Bu binanın on beş gün içinde boşaltılması gerekiyor.

19. Aşağıdaki cümlelerin hangisinde yazım yanlışı vardır?

- A) Öğleden sonra, yapboz almak için evden çıktık.
- B) Konunun önemli noktalarını hemen not ettim.
- C) Siz pazara gide durun, biz arkanızdan geliriz.
- D) Bu etkinlikte pek çok sanatsever bir araya geldi.

20. Kapının önünde uzun boylu () sağlam yapılı () şapkalı bir adam duruyordu () Kendisini tanımadığım hâlde neden bu adamdan korkuyordum ()

Bu parçada ayraçla () gösterilen yerlere sırasıyla aşağıdaki cümlelerin hangisinde verilen noktalama işaretleri getirilmelidir?

- A) (,) (:) (.) (!) B) (:) (,) (!) (?)
- C) (,) (,) (.) (?) D) (,) (:) (...)

(402) DİL VE ANLATIM – 2

1. Aşağıdaki cümlelerin hangisinde birleşik sözcük kullanılmamıştır?

- A) Kötülere istediğini yap ama fakir fukaraya zulmetme.
- B) İnsan mahpushaneye ilk girdiğinde bir süre bocalar.
- C) Yüreğinin gizlisinde ince bir sızı vardı genç adamın.
- D) Eşkiya Binboğa yolunu kesmiş, diye köye haber geldi.

2. "Kurmak" sözcüğü aşağıdaki cümlelerin hangisinde "gereken şartları hazırlayıp kendi kendine olmaya bırakmak" anlamında kullanılmıştır?

- A) Babaannem bize her sene mis gibi salatalık turşusu kurar.
- B) Çocuk, onun oyuncak arabasını kurdu ve yol almasını seyretti.
- C) Yeni aldığı kitaplığı uzun bir süre uğraştıktan sonra kurdu.
- D) İki kardeş, biriktirdikleri parayla küçük bir şirket kurdu.

3. Aşağıdaki cümlelerin hangisinde eş sesli sözcük kullanılmamıştır?

- A) Bitmek bilmiyordu bir türlü yol.
- B) Kan kusup kızılık şerbeti içtim, diyor.
- C) Bu bağ artık iyi üzüm vermez.
- D) Son gün hepimize tatlı ısmarladı.

4. I. Baz istasyonları çok yakında arıların kökünü kazıyacak.
II. Senin anlayacağın koca şirketin altından girip üstünden çıkmışlar.
III. Eşim iki ay önce beni bu konuda hesaba çekmişti.
IV. Çocuklar dolaptaki zeytinyağı sarmayı silip süpürmüşler.

Yukarıdaki numaralanmış cümlelerdeki deyimlerden hangileri anlamca birbirine en yakındır?

- A) I ve II. B) I ve IV.
- C) II ve III. D) III ve IV.

5. Aşağıdakilerin hangisinde cümlelerin bildirdiği anlamla ayraç içinde verilen anlam uyuşmamaktadır?

- A) Ben de senin canını daha fazla sıkımayayım. (Haber cümlesi)
- B) Hadi, eve kadar arabana bırak beni. (Emir cümlesi)
- C) Yağmur diner dinmez yola çıkmalı. (Gerekliklik cümlesi)
- D) Gecelerimin nesi iyi olacakmış benim? (Soru cümlesi)

6. Aşağıdakilerden hangisi yapıcı sıralı cümledir?

- A) İnsanlar için bir şeyler yapmaya çalışanlara saygı duyardı.
- B) Bazı arkadaşlarımız bu habere inanmak istememişler.
- C) Söylenenleri dikkatle dinliyor, unutmamak için not alıyordu.
- D) İstanbul, depremden korunmak için önlemlerini alıyor.

7. Aşağıdaki cümlelerin hangisinde amaç-sonuç ilişkisi vardır?

- A) Hiç kimse bu manzara karşısında duyarsız kalamazdı.
- B) Ustalar, işlerini bir an evvel bitirmek için durmadan çalışıyordu.
- C) Karşı kıyıya geçince kendini daha huzurlu hissetti.
- D) Yaşlı adam bitkin adımlarla hastaneye doğru yürüyordu.

2. OTURUM

8. Aşağıdakilerden hangisi bir paragrafın giriş cümlesi olabilir?

- A) Oysa yazar, gazetedeki köşesinden okura sesleniyor.
- B) Bu dergiler, çoğu meselenin toplumsal boyutunu ele almıyor.
- C) Sanatçı eserini oluştururken gerçeklerden hareket eder.
- D) Ama bu, gelecekte onun sanatsal değerine gölge düşürür.

9. Sebze ve meyveler, sağlığımız için çok faydalıdır; "doğal eczane" olarak adlandırılabilir. Dünyanın farklı yerlerinde yapılan yüzlerce çalışma, bize daha iyi bir hayatın gizli hazinelerinin sebze ve meyvelerde bulunduğunu gösteriyor. Örneğin bir araştırma, özellikle muz ve kayısının kan basıncını düşürdüğünü gösteriyor. Kilo fazlalığı konusunda yapılan araştırmalar da düzenli sebze ve meyve tüketmenin sağlıklı kiloda kalmanın güvencesi olduğunu gösteriyor.

Bu parçada sebze ve meyvelerle ilgili aşağıdakilerden hangisine değinilmemiştir?

- A) Fazla yemenin insana zarar verdiğine
- B) İnsan sağlığı için çok yararlı olduğuna
- C) Birçok araştırmaya konu olduğuna
- D) Kilo kontrolüne yardımcı olduğuna

10. Çarşı her zaman karanlık, serin ve kalabalık olurdu. Çarşının bir sürü kapısı vardı. Bu kapılar; güvercinli cami avlularına, çay bahçelerine, çok katlı apartmanlara, yapraklarını döken bir küme ağaçlığa, daracık sokaklara, yıkık surlara, gürültülü duraklara açılırdı. Demek ki her biri ayrı bir mevsime açıktı kapıların. Ölümsüz kocaman bir yapı demekti bu da.

Bu paragrafın çeşidi aşağıdakilerden hangisidir?

- A) Olay paragrafı
- B) Betimleme (Tasvir) paragrafı
- C) Düşsel (Fantastik) paragraf
- D) Düşünce (Fikir) paragrafı

11. Varsın bahçelerde rüzgâr gezinsin,

I
Yağmur ince ince toprağa sinsin,
II
Bir başka âlemden gelmiş gibisin,
III
Dalmış gözlerinle pencerelerde.
IV

Bu dörtlükte numaralanmış sözcüklerden hangisinin kökü, tür bakımından diğerlerinden farklıdır?

- A) I. B) II. C) III. D) IV.

12. Aşağıdaki cümlelerde altı çizili sözcüklerden hangisi hem yapım hem de çekim eki almıştır?

- A) Özgür düşünce, durmadan gelişmek isteyen düşüncedir.
- B) Akdeniz'in üstünde daima top top bulutlar salınır.
- C) Babam, doğum günümü hiçbir zaman unutmaz.
- D) Bilimin bir işlevi de iyi ile kötüyü belirlemesidir.

13. Aşağıdaki cümlelerde altı çizili sözcüklerden hangisi soyut anlamlıdır?

- A) Yapılan iyilikler hiçbir zaman boşa gitmez.
- B) Öykülerini her zaman salondaki masada yazardı.
- C) Ağacın altına oturup beş dakika dinlendik.
- D) Suyun ve kuşların sesi insana huzur veriyor.

14. "Yumuşak" sözcüğü aşağıdaki cümlelerin hangisinde mecaz anlamda kullanılmıştır?

- A) Çocuklar yumuşak yastıkların üzerine oturdular.
- B) Bu kumaş yumuşak olduğu için ütüsü çabuk bozulur.
- C) Gözlerinde her zamanki gibi yumuşak bir ifade vardı.
- D) Yumuşak toprağı kazmak kolay olur.

15. "Gölün üstünden turna katarları geçiyordu." cümlesinin öge dizilişi aşağıdakilerin hangisinde doğru verilmiştir?

- A) Belirtili nesne-Özne-Yüklem
- B) Dolaylı tümleş-Özne-Yüklem
- C) Zarf tümleci-Belirtisiz nesne-Yüklem
- D) Belirtisiz nesne-Dolaylı tümleş-Yüklem

16. Aşağıdakilerin hangisinde anlatım bozukluğu vardır?

- A) Koşuş, zayıf ampullerin sarımsı kirli ışığında uykuya daldı.
- B) Adam yatakhaneye girdi ve sonra telaşla dışarı çıktı.
- C) Yemekhanedeki uzun masanın üzerinde çocuklar yatıyordu.
- D) Bahçenin duvarlarına resimler çizilmiş, yazılar yazılmıştı.

17. Daha başka örnekler de alsak ya da İlk Çağ'dan bu yana sanatsal oluşumu aralıksız tarasak gene bu gerçeği, bu nesnel yargıyı göreceğiz. İster çağlar öncesinin destanları olsun ister günümüzden bir tiyatro oyunu veya bir bilim kurgu romanı olsun bu değişmez. Sanatçı, içinde bulunduğu günlerden ve çağlardan tümüyle ayrı düşmez. Eserinde ister geçmişe gitsin ister geleceğe, bir ayağı hep yaşadığı zamandır.

Bu parçada asıl anlatılmak istenen düşünce aşağıdakilerden hangisidir?

- A) Çağından ayrı düşen sanatçılar başarılı eserler ortaya koyamaz.
- B) Farklı çağlarda yazılan eserlerin de mutlaka ortak bir noktası vardır.
- C) Sanat, kökeni yüzyıllar öncesine dayanan bir oluşumdur.
- D) Sanat eserleri bir şekilde, içinden çıktığı zamanın özelliklerini taşır.

2. OTURUM

18. Neler olmaz ki yaz ikindilerinde... Serüvenden serüvene koşar doğa. Kozalaklar büyür, genişler, çıtır çıtır çatlar. Yılan yeşili dikenlerin ince kalın ak damarları belirginleşir. Rüzgâr sıcak bir soluk olup akar havanın içinde. Güneş denizle oynarken insanı kapıp götüren bir şölendir başlayan.

Bu parçanın anlatımında ayrıntıların seçilmesinde aşağıdaki duyuların hangisinden yararlanılmamıştır?

- A) Duyma B) Koklama
C) Dokunma D) Görme

19. Şairlerimizin arasında en duygularından biri, belki de birincisi Ziya Osman Saba'ydı. Çayırdaki sessiz otlayan koyun, şadırvana konmuş bir güvercin, güneşin batışı sırasında yakaladığı bir renk onu duygulandırmış, şiirini bu duygu gücüyle örmüştür. Ben onun ölçülü, uyaklı şiirlerini öbürlerinden daha üstün tutarım. Çünkü ölçüyle uyağın sınırları Ziya Osman'a duygululuğunu daha rahat yenebilme gücünü vermiştir.

Bu parçada Ziya Osman Saba'nın şiir anlayışıyla ilgili aşağıdakilerden hangisine ulaşılamaz?

- A) Hece ölçüsüyle ve serbest ölçüyle yazmıştır.
B) Sanatsız, açık bir dil kullanmıştır.
C) Şiirlerinde düşünceden çok duygu ağır basmaktadır.
D) İlhamını doğadan almıştır.

20. (I) Sıcak bir yüzeyin elimizi yakabileceği, iğnenin sivri ucunun elimize batabileceğini çoğumuz çocukken yaşadığımız acı deneyimlerle öğrendik. (II) Sadece bunlar değil elbet; bir bebeğin yumuşacık eli, annemizin ipek saçı ve çok daha fazlası dokunma hissinin bize öğrettikleri arasında yer alıyor. (III) Temel duyularımızdan olan dokunma hissi hiç şüphesiz dünyayı daha anlamlı kılıyor. (IV) Dokunduğumuz yüzeyleri, alt deride bulunan sinir hücrelerinin uyarıları beyin merkezine ulaştırmasıyla algılarız. (V) Bu nedenle sinir hücrelerinin yoğun olduğu parmak uçlarının hassas algılama düzeyi hayli yüksektir. (VI) Öyle ki bu hassaslığı robotlarda yapay olarak sağlamanız şimdilik neredeyse imkânsız.

Bu parça anlam bütünlüğüne göre iki paragrafa ayrılmak istense ikinci paragraf numaralanmış cümlelerin hangisiyle başlar?

- A) II. B) III.
C) IV. D) V.

(411) TÜRK EDEBİYATI – 1

1. Şimdi Raif Efendi'nin sarsılmaz sükûnetini, insanlar ile ilişkilerini, garip çekingenliğini gayet iyi anlıyordum. Etrafını bu kadar iyi tanıyan, karşısındakinin ta içini bu kadar keskin ve açık gören bir insanın heyecanlanmasına ve herhangi bir kimseye kızmasına imkân yoktu. Raif Efendi, benim için tekrar merak edici bir hâl almıştı.

Bir romandan alınan bu parça edebiyatın aşağıdaki bilim dallarının hangisiyle ilişkisi olduğunu gösterir?

- A) Sosyoloji B) Tarih
C) Psikoloji D) Coğrafya

2. Aşağıdaki yazı türlerinden hangisi sanatsal metinler arasında yer almaz?

- A) Şiir B) Günlük
C) Hikâye D) Tiyatro

3. Düşünce ve duyguların gerektiği kadar sözcükle anlatılmasına duruluk denir. Duru bir cümlede gereksiz sözcüklere yer verilmez.

Bu açıklamaya göre aşağıdakilerden hangisi duru bir cümle değildir?

- A) Defterin her sayfası, her yaprağı gençlik anılarıyla doluydu.
B) Ustalar, konağın dört tarafına kale duvarı gibi bir duvar ördüler.
C) Güzel sanatlar ve ticaret, ülkenin her yanında gelişmektedir.
D) Zamanında bir kız varmış; gençmiş, güzelmiş ama fukaraymış.

4. I. Bahçemizde nar ağacı
Kimi tatlı kimi acı
Gönüldeki dert ilacı
Ya bulunur ya bulunmaz
II. Şimdi dünyada nerde biri ağlıyorsa
Sebepsiz, dünyada, ağlıyorsa
Bana ağlıyor.
III. Sana gitme demeyeceğim.
Gene de sen bilirsin.
Yalanlar istiyorsan yalanlar söyleyeyim,
İncirsin.
IV. Bir nîm neşe say bu cihânın bahârını
Bir sâgar-ı keşîdeye tut lâlezârını

Yukarıda numaralanmış dize-lerden hangileri aynı geleneğe aittir?

- A) I ve III. B) I ve IV.
C) II ve III. D) II ve IV.

5. Karanfilsin bahar gelir açarsın,
Her tarafa güzel koku saçarsın,
Bülbül gibi gül dalına uçarsın,
Ağrımın senin başın belalım.

Bu dördülikle ilgili aşağıdakilerden hangisi söylenemez?

- A) 8'li hece ölçüsüyle söylenmiştir.
B) Uyak düzeni "aaab" biçimindedir.
C) Redif kullanılmıştır.
D) Nazım türü güzellemedir.

2. OTURUM

6. Aşağıdaki şiir türleri ile ilgili eşleştirmelerden hangisi yanlıştır?

- A) Didaktik- ağıt
- B) Lirik- güzelleme
- C) Satirik- taşlama
- D) Epik- koçaklama

7. Aşağıdakilerden hangisi klasik edebiyatın özelliklerindendir?

- A) Dörtlüklerle yazılan şiirlerde hece ölçüsü kullanılmıştır.
- B) Şiirler çoğunlukla dörtlük nazım birimiyle yazılmıştır.
- C) Arapça, Farsça sözcüklerle yüklü bir dil kullanılmıştır.
- D) Şairler şiirlerini "tezkire" adı verilen kitaplarda toplamışlardır.

8. Derinden derine ırmaklar ağlar
Uzaktan uzağa çoban çeşmesi
Ey suyun sesinden anlayan bağlar
Ne söyler şu bağa çoban çeşmesi

Bu dizelerde aşağıdaki söz sanatlarından hangisi vardır?

- A) Tariz
- B) Tezat
- C) Teşhis
- D) Telmih

9. Aşağıdaki seçeneklerin hangisinde halk şiiri nazım biçimleri bir arada verilmiştir?

- A) Koşma- semai- gazel
- B) Semai- koşma- mani
- C) Kaside- rubai- ilahi
- D) Türkü- şarkı- gazel

10. Yıllardır ki bir kılıcım, kapalı kında,
Kimsesizlik dört yanımda bir duvar gibi,

Bu dizelerin teması aşağıdakilerden hangisidir?

- A) Öfke
- B) Özlem
- C) Umut
- D) Yalnızlık

11. Duygu, düşünce, hayallerin söz veya yazı ile güzel ve etkili bir biçimde anlatılmasına - - - - denir.

Bu cümlede boş bırakılan yere aşağıdakilerden hangisi getirilmelidir?

- A) sanat
- B) edebiyat
- C) edebî eser
- D) metin

12. Bir toplumun pek çok özelliği, yaşayışı, gelenekleri, dünya görüşü, yaşam felsefesi, inançları, bilim, teknik ve sanata katkıları o toplumun diline yansır; o toplumun dilinden izlenebilir. Bugün Köktürk Yazıtları, ulusumuzun 8. yüzyıldaki kültürüyle ilgili pek değerli ipuçları vermektedir.

Bu metinde dilin aşağıdaki özelliklerinden hangisine vurgu yapılmaktadır?

- A) Köklü bir geçmişinin olmasına
- B) En etkili iletişim aracı olmasına
- C) Kültür taşıyıcısı olmasına
- D) İnsanı öteki varlıklardan ayırmasına

13. Aşağıdakilerden hangisi doğru ve güzel bir cümlede öncelikle olması gereken niteliklerden değildir?

- A) Açıklık
- B) Duruluk
- C) Evrensellik
- D) Akıcılık

14. Bir dönemdeki sosyal, siyasi, idari, adli, askerî, dinî güçlerin, sivil toplum örgütlerinin, ticari hayatın, eğitim etkinliklerinin birlikte oluşturdukları ortam ve bunların hiçbirine indirgenemeyen duygu, anlayış ve zevk bütününe ne ad verilir?

- A) Sanat
- B) Zihniyet
- C) Gerçeklik
- D) Estetik

15. Bir vakte erdi ki bizim günümüz
Yiğit belli değil mert belli değil
Herkes yarasına derman arıyor
Deva belli değil dert belli değil

Bu şiirin nazım türü aşağıdakilerden hangisidir?

- A) Koçaklama
- B) Ağıt
- C) Güzelleme
- D) Taşlama

16. Aşağıdaki dizelerin hangisinde tunç uyak vardır?

- A) Neresi kırılmış deyü sordular
Kimi nala kimi mika vurdular
- B) Bu âlemi yaratan bir
O'dur külli şeye kadir
- C) Bülbül âşık idi gonca güllere
Arzusun söylerdi esen yellere
- D) Geçirdim bu yıl da yazı
Hakka ettim ben niyazı

17. Aşağıdaki dizelerin hangisinde benzetme sanatı vardır?

- A) Zehir gibi rüzgârlar yöremde
Gün günden daha kötü esecek
- B) Günlerce yağmur yağsın istiyorum
Yağmur yağsın ve konuşma
- C) Ağaçlar sonbahara hazırlanıyor
Bu şehir o eski İstanbul mudur
- D) Sazımı elime aldım alalı
Nerde güzel görsem başım belalı

18. Gönünü Şirin'in aşkı sarınca
Yol almış hayatın ufuklarınca,
O hızla dağları Ferhat yarınca
Başlamış akmağa çoban çeşmesi

Bu dörtlükte aşağıdaki söz sanatlarından hangisi yoktur?

- A) Güzel nedene bağlama (hüs-nitalil)
- B) Abartma (mübalağa)
- C) Anımsatma (telmih)
- D) Karşıtlık (tezat)

19. **1. Şiir**

İllerde konup göçerler
Lale sümbülü biçerler
Ağalar beyler içerler
Kahve de kara değimli

2. Şiir

Gülelim oynayalım kâm alalım
dünyadan
Mai Tesnim içelim çeşmei Nev-
peydan
Görülemler ab-ı hayat çıktığın ejder-
hadan
Gidelim serv-i revanım yürü
Sadabad'e

Bu iki şiir karşılaştırıldığında aşağıdakilerden hangisi söylenemez?

- A) Aynı ölçüyle yazılmışlardır.
- B) Farklı geleneklere aittirler.
- C) 1. şiirin dili, 2. şiire göre daha sadedir.
- D) Uyak düzenleri aynıdır.

2. OTURUM

20. Zulüm tez doyurur; adalet aç kor Yazık, arkasında öfke kor, öç kor Toprak beş on kemik, bir tutam saç kor
Düşünür gezerim; İBRET BU derim.

Bu dörtlük konusuna göre aşağıdaki şiir türlerinden hangisine örnektir?

- A) Lirik B) Didaktik
C) Epik D) Pastoral

(412) TÜRK EDEBİYATI – 2

1. ALİ RIZA (oğlunu ancak önünde durduğu zaman fark ederek başını kaldırır, ürkerek ve şaşkınlıkla) – Sen misin Şevket? Hayırdır inşallah, ne işin var burada senin? ŞEVKET (gülümseyerek) – Seni aramaya çıktım baba.
ALİ RIZA – Merak ettiniz korkarım, ben annene söyledimdir bir parça dolaşacağımı, ama unutmuş olacağım.

Bu parça aşağıdaki metin türlerinin hangisinden alınmıştır?

- A) Anlatmaya bağlı edebî metin
B) Göstermeye bağlı edebî metin
C) Kişisel hayatı anlatan metin
D) Gazete çevresinde oluşan metin

2. Öykü türünün kaynağı, Hint edebiyatında - - - - kadar uzanır. 13. yüzyılda İtalyan edebiyatında Boccaccio'nun - - - - adını taşıyan eseri bu türün ilk örneğidir.

Bu parçada boş bırakılan yerlere sırasıyla aşağıdakilerden hangisi getirilmelidir?

- A) Billur Köşk Masalları'na – Don Kişot
B) Leyla ile Mecnun hikâyesine – Telemaque
C) Kelile ve Dimne'ye – Romeo ve Juliet
D) Binbir Gece Masalları'na – Dekameron

3. **Aşağıdaki parçalardan hangisi ilahi bakış açısıyla kaleme alınmıştır?**

- A) Bir gün, balıkçı kahvesinin önündeki yarısı kırmızı, yarısı beyaz çiçek açan akasyanın dalına asılmış bir dülger balığı gördüm. Rengi denizden çıktığı zamanki esmer renkteydi önce. Vücudunda hiç kıvılcama yoktu.
B) Mümtaz onu dinlerken aydınlıktan aydınlığa koştüğünü sanıyordu. Bir gün kitabın planını beraberce münakaşa ettiler. İhsan kronolojik bir tarih olmasını istiyordu. Osmanlı İmparatorluğu'na Bizans'tan devredilmiş iktisadi şartlardan başlayacak, sene sene bugüne kadar getirecekti.
C) Ahmet de dalmış uykuya. Battaniyesinin yarısı üzerinde, yarısı denizde, güverteye uzanmış. Göğsüne, başına, ayaklarına, kollarına kuşlar konmuş! Adamı uyandırdık. Gözlerini oğuşturdu. Bizi görünce gülümsedi.
D) Doğruldu. Üstündeki ker-tenkeleler kaçıştılar. Limana baktı. Hakikaten kalenin karşısına bir donanma gelmişti. Kadırgaların, yelkenlerin, küreklerin biçimine dikkat etti. Sarardı.

4. I. Destanlarda anlatılan olaylar tamamen gerçektir.
II. Destanlarda ulusal karakterler değil, evrensel karakterler vardır.
III. Destanlarda toplumların ortak duyguları dile getirilir.
IV. Destanlar, doğal ve yapma olmak üzere iki türe ayrılır.

Yukarıda verilen bilgilerden hangileri destanın özelliklerinden değildir?

- A) I ve II. B) I ve III.
C) II ve IV. D) III ve IV.

5. **Aşağıdaki sanatçılardan hangisi manzum hikâye türünde önemli eserler vermiştir?**

- A) Ahmet Haşim
B) Yahya Kemal Beyatlı
C) Tevfik Fikret
D) Namık Kemal

6. **Aşağıdakilerin hangisi müzikli tiyatro çeşididir?**

- A) Opera B) Komedi
C) Dram D) Trajedi

7. Karagöz oyununda Karagöz ile Hacivat'ın aralarında geçen konuşmaların olduğu bölüme - - - - ; asıl oyunun yer aldığı, oyunun konusuna göre farklı tiplerin perdeye yansıtıldığı bölüme - - - - adı verilir.

Bu cümledeki boşluklara sırasıyla aşağıdakilerin hangisi getirilmelidir?

- A) giriş- muhavere
B) muhavere- fasıl
C) fasıl- bitiş
D) giriş- bitiş

8. **Aşağıdakilerin hangisi gazete ve dergi çevresinde gelişen türlerden değildir?**

- A) Eleştiri B) Fıkra
C) Anı D) Deneme

9. **Eleştiri türü ile ilgili aşağıdakilerden hangisi yanlıştır?**

- A) Eleştirinin konusu bir sanatçı ya da sanat eseridir.
B) Eleştiride peşin yargılardan kaçınılmalıdır.
C) Eleştiri bilimsel (nesnel) ve izlenimci olmak üzere ikiye ayrılır.
D) Eleştirinin amacı bir sanat eserini ya da sanatçıyı yermektir.

10. Bir yazarın herhangi bir konu üzerinde görüş ve düşüncelerini kanıtlama gereği duymadan, kesin yargılara varmadan anlattığı yazı türüdür. Yazar, samimi bir dille kendisiyle konuşuyormuş gibi yazar.

Aşağıdaki sanatçılardan hangisi bu parçada tanımlanan türde eser vermemiştir?

- A) Sait Faik Abasıyanık
B) Nurullah Ataç
C) Suut Kemal Yetkin
D) Montaigne

2. OTURUM

11. Aşağıdakilerin hangisi masalın özelliklerinden değildir?

- A) Olayın geçtiği yer ve zaman belli değildir.
- B) Masallar döşeme adı verilen bölümle başlar.
- C) İyi ile kötü, güzel ile çirkin gibi zıt kavramların çatışması işlenir.
- D) Masallar millîdir, masallarda milleti ilgilendiren konular anlatılır.

12. Aşağıdaki destanlardan hangisi yapma destan değildir?

- A) Kuvayı Millîye Destanı
- B) Üç Şehitler Destanı
- C) Kurtarılmış Kudüs
- D) Manas Destanı

13. Dilimiz günden güne geliyor, yabancı sözcüklerden arınıyor. Sadece yabancı sözcüklerden değil, yabancı köklerden gelecek Türkçenin kurallarına göre türemiş, Türk dilinin malı olmuş sözcükleri de yerlerine yenilerini buldukça değiştiriyoruz. Dilimizin özleşmesi diyebileceğimiz bu işin oldukça güç olduğu, önerilen yeni sözcüklerin önce yadırganacağı, benimsenmelerinin biraz da zamana bağlı olduğu, yaşama sanatçı eliyle sokulması gerektiği kuşkusuzdur.

Bu parça aşağıdaki metin türlerinden hangisine örnektir?

- A) Deneme B) Biyografi
- C) Gezi yazısı D) Anı

14. Aşağıdaki mesnevilerin hangisi konusuna göre diğerlerinden farklıdır?

- A) Yusuf u Züleyha
- B) Leyla vü Mecnun
- C) Hüsn ü Aşk
- D) Vesiletü'n Necat

15. Aşağıdakilerin hangisi anlatmaya bağlı edebî metinlerin yapı özellikleri arasında yer almaz?

- A) Olay örgüsü B) Tema
- C) Kişiler D) Mekân

16. Martın yirmi beşinde kendime gelir olmuştum. İhsan'la döndüğüm son akşamın sabahı kırk derece hararetle uyandım. Hastalığımı belli etmemeye ne kadar çalıştımsa muvaffak olamadım. Üç gün kadar sonra doktorlar bunu İspanyol nezlesi diye teşhis ediyorlardı. Esasen bir haftadır kırıklık hissediyordum.

Bir romandan alınan bu parçada aşağıdakilerden hangisi belirgin değildir?

- A) Yer B) Zaman
- C) Olay D) Kişi

17. I. Makale yazmak için geniş bilgi ve kültür birikimine ihtiyaç vardır.
II. Ele alınan konu işlenirken öznel bir tutum takınılmalıdır.
III. Gazete makalelerinde günlük olaylar işlenir.
IV. Anlatımda sanatlı, süslü bir dil kullanılmalıdır.

Numaralanmış cümlelerin hangilerinde makale ile ilgili yanlış bilgi verilmiştir?

- A) I ve II. B) II ve III.
- C) II ve IV. D) III ve IV.

18. Ben yazılarımda eseri ve sanatçıyı işlerim. Bir eserin veya sanatçının gerçek değerinin ortaya çıkarılmasına çalışırım. Yazılarımda geniş bir bilgi birikiminin izleri görülür. İncelediğim eserleri bütün olarak ele alır, peşin yargılardan kaçınırım.

Yazılarını bu şekilde nitelendiren bir yazar aşağıdaki türlerin hangisinde yazmaktadır?

- A) Deneme B) Makale
- C) Eleştiri D) Fıkra

19. - Birbirini tanıyan iki kişi arasında yazılır.
- Eşe, dosta, akrabaya yazılır.
- En belirgin niteliği içten geldiği gibi yazılmasıdır.

Bu özellikler aşağıdaki mektup türlerinden hangisine aittir?

- A) İş mektubu B) Özel mektup
- C) Açık mektup D) Dilekçe

20. Bir toplumda ahlakın ilerlemesini, düzelmesini istiyor musunuz? O toplumda edebiyat, sanat merakını uyandırmaya, geliştirmeye çalışın. Çocuklara, gençlere şiirler, romanlar, hikâyeler okutturun; onları tiyatrolara, sinemalara gönderin. O hikâyelerin, romanların, oyunların insanları ile tanışsınlar, onların hayatlarını hayallerinde yaşasınlar, öğrensinler. Böylece gerçekteki insanları da daha iyi anlarlar. Çocuğunuz büyüyünce ne olacaksa olsun, küçükken siz ona edebiyatı sevdirmeye bakın; ilim, bilgi sonradan gelecektir, önce insanlığını kurmak, hayalini işletmek gerekir.

Bu parçanın ana düşüncesi aşağıdakilerden hangisidir?

- A) Toplumların ahlaki olgunlaşması edebiyat ve sanatla mümkündür.
- B) İnsanları anlamanın yolu sanatı anlamaktır.
- C) İnsanlar, çocukluk ve gençlik çağlarında sanata daha ilgilidir.
- D) Bilgi ve sanat arasında çok sıkı bir bağ vardır.

(421) FİZİK – 1

1. Bilgisayarlarda kullanılan SSD (Katı hal disk) bellekler küçük yapısı ve hızlı veri kodlama özellikleri fiziğin hangi alt alanı ile ilgilidir?

- A) Optik
- B) İletkenlik ve manyetizma
- C) Dalgalar
- D) Katı hal fiziği

2. Kuvvet, hareket, enerji, ses, ışık, elektrik ve atom gibi konularla ilgilenen bilim dalına ne ad verilir?

- A) Kimya B) Fizik
- C) Biyoloji D) Edebiyat

2. OTURUM

3. Aşağıdakilerden hangisi nitel veridir?

- A) Uçakla yapılan yolculuklar zaman kazandırır.
 B) Ankara - İstanbul otobüsü yaklaşık 4 saat sürer
 C) Bir kilogram bin grama eşittir.
 D) Hızlı tren ile Ankara - Eskişehir 1 saat 30 dakikadır.

4. Fizikte kullanılan temel büyüklükler ve uluslar arası birim sistemi birimleri ile olan eşleştirmeler hangisinde yanlış verilmiştir?

Temel Büyüklük	Uluslararası Birim Sistemi Birimleri
A) Zaman	Saniye
B) Madde miktarı	Kilogram
C) Elektrik akımı	Amper
D) Işık şiddeti	Kandela

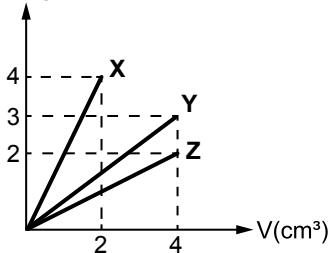
5. Aşağıdakilerden hangisi vektörel bir büyüklüktür?

- A) Zaman B) Özkütle
 C) Kuvvet D) Hacim

6. Kütleleri 150 ton olan mavi balına kilogram cinsinden aşağıdakilerden hangisine eşittir?

- A) $15 \cdot 10^6$ B) $15 \cdot 10^4$
 C) $15 \cdot 10^2$ D) 1,50

7. X, Y, Z cisimlerinin kütle - hacim grafiği şekildedir.



Buna göre cisimlerin özkütellerinin büyüklük sıralaması aşağıdakilerden hangisidir?

- A) $d_x > d_y = d_z$
 B) $d_x > d_y > d_z$
 C) $d_y = d_z > d_x$
 D) $d_z > d_y > d_x$

8. Gazın iyonlaşmış haline plazma denir.

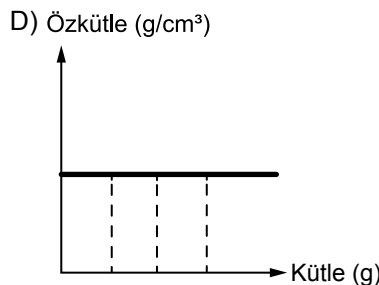
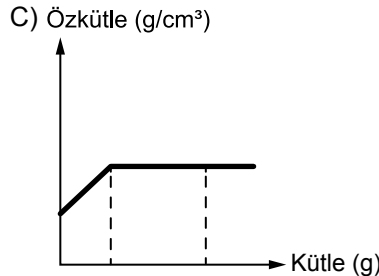
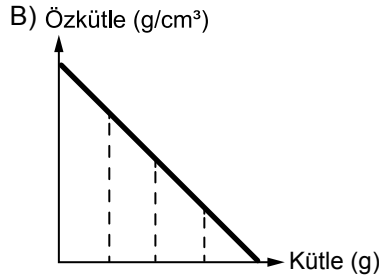
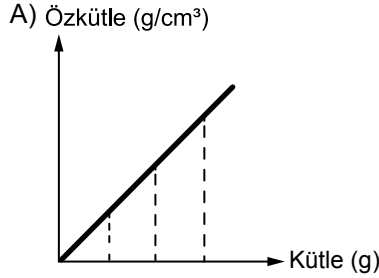
Buna göre aşağıdakilerden hangisi plazmalara örnek verilemez?

- A) Azot gazı B) Güneş
 C) Yıldızlar D) Şimşek

9. Fotokopi kağıdına ait kütle ve hacim ölçümleri tabloda verilmiştir.

Kütle (g)	Hacim (cm ³)
20	30
50	75
90	135

Tablodaki verileri kullanarak özkütle - kütle grafiği çizilirse aşağıdakilerden hangisi gibi olabilir?



10. Bir cismin dayanıklılığı kesit alanı/hacim oranı ile hesaplandığına göre yarıçapı 3 cm, yüksekliği 12 cm olan metal silindir kabın dayanıklılığı aşağıdakilerden hangisidir? ($\pi = 3$ alınacak)

- A) $\frac{1}{36}$ B) $\frac{1}{27}$ C) $\frac{1}{12}$ D) $\frac{1}{3}$

11. Yarıçapı 200 m olan dairesel bir yolun yarısını 20 s'de alan motosikletlinin sürati kaç m/s'dir. ($\pi = 3$ alınacak)

- A) 100 B) 40
 C) 30 D) 10

12. Okula gitmek için evinden çıkan Ayşe Öğretmen 6 saat sonra evine dönüyor.

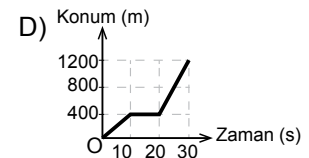
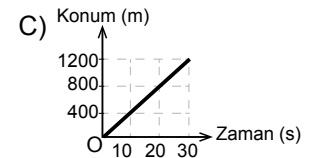
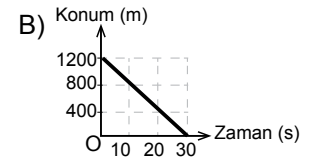
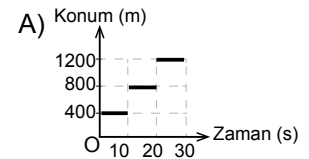
Ev ile okul arası 12 km olduğuna göre, Ayşe Öğretmenin yer değiştirmesi kaç kilometredir?

- A) 36 B) 24 C) 12 D) 0

13. Bir arabanın hareketine ait konum ve zaman değerleri tabloda verilmiştir.

Zaman (s)	0	10	20	30
Konum (m)	0	400	800	1200

Buna göre arabanın konum-zaman grafiği aşağıdakilerden hangisi gibi olabilir?



2. OTURUM

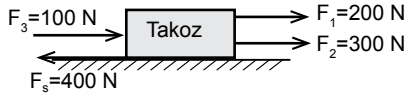
14. Düz bir yolda bisikleti ile 28 m/s'lik hızla gitmekte olan Ömer, 4 m/s²'lik sabit ivmeyle bisikletini frenliyor.

Buna göre Ömer'in bisikleti kaç saniye sonra durur?

- A) 7 B) 16 C) 48 D) 96

15. **Sürtünme kuvveti ile ilgili aşağıdakilerden hangisi yanlıştır?**

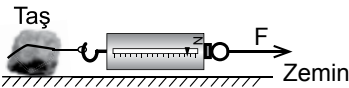
- A) Sürtünme kuvveti sürtünen yüzeylerin cinsine bağlıdır.
B) Sürtünme kuvveti statik ve kinetik sürtünme kuvvetleri olarak ikiye ayrılır.
C) Sürtünme kuvveti cisimlerin temas yüzeyinin alanına bağlı değildir.
D) Sürtünme kuvveti cisimler hareketli iken statik sürtünme kuvveti olarak adlandırılır.

16. 

Şekildeki yatay düzlemde takozu etkileyen net kuvvet kaç N'dur? (Fs = Sürtünme kuvveti)

- A) 200 B) 300 C) 400 D) 600

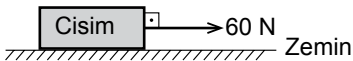
17. Ağırlığı 20 N olan taş yatay zeminde dinamometre ile çekiliyor ve dinamometre 1,6 N gösterdiğinde taş harekete geçiyor.



Buna göre taşla zemin arasındaki sürtünme kuvveti kaç N'dur? (Statik ve kinetik sürtünme katsayıları eşittir.)

- A) 3,2 B) 1,6
C) 18,4 D) 21,6

18. Şekildeki cisme 60 N'luk kuvvet uygulandığında 3 m/s²'lik ivme ile hareket ediyor.



Buna göre cismin kütlesi kaç kilogramdır? (Sürtünme yok)

- A) 180 B) 90 C) 40 D) 20

19. 90 m/s sabit hızla giden arabadaki sürücü frene basarak hızını 20 saniyede 40 m/s'ye düşürüyor.

Buna göre arabanın, ivmesinin büyüklüğü kaç m/s²'dir?

- A) 4 B) 3,5 C) 2,5 D) 2

20. I. Demiryolunda hızlanan tren
II. Kırmızı ışığı görünce yavaşlayan otomobil
III. Düz bir yolda sabit hızla giden kamyon

Araçların hangileri ivmeli hareket yapmıştır?

- A) I ve II B) II ve III
C) Yalnız III D) Yalnız I

(422) FİZİK – 2

1. Bir seyyar satıcı el arabasını 58 N büyüklüğünde kuvvetle iterek doğrusal yolda 100 m yer değiştirdiğine göre yapılan iş kaç jouledür? (Sürtünme yok)

- A) 58 B) 580
C) 5800 D) 10 000

2. Aşağıda verilen örneklerden hangisinde fiziksel anlamda iş yapıldığı kabul edilir?

- A) Sırada oturan öğrenci
B) Yerdeki taşın rafa konulması
C) Masa üstünde duran kitap
D) Oturarak televizyon seyretmek

3. Düz yolda sabit V hızıyla hareket eden oyuncak trenin kütlesi 1800 g, kinetik enerjisi ise 90 J'dür.

Buna göre trenin hızı kaç m/s'dir?

- A) 2 B) 4 C) 6 D) 10

4. Yerden 30 m yükseklikte uçan 2 kg kütleli bir maket uçağın kütle çekim potansiyel enerjisi kaç jouledür?

(g=10m/s² alınacak)

- A) 60 B) 600
C) 6000 D) 300

5. Bir inşaattaki elektrik motoru ile kurulan sistemde 100 kg'lık demir parçaları yerden 8 m'lik yüksekliğe sabit hızda 10 s'de çıkarılıyor.

Buna göre motorun mekanik gücü kaç wattır?

(g=10m/s² alınacak)

- A) 800 B) 1200
C) 1800 D) 10 000

6. Aşağıdakilerden hangisi enerji tasarrufu için yapılan uygulamalardan biridir?

- A) Odaların aydınlatılmasında filament ampullü avize kullanmak
B) Yemek pişirmek için düdüklü tencere kullanmak
C) Bina izolasyonunda köpük sistemi kullanmamak
D) Yaz aylarında klima kullanmak

7. Yüksek sıcaklık ölçümlerinde fabrika ve fırınlarda aşağıdaki termometrelerden hangisi kullanılır?

- A) Metal termometreler
B) Sıvılı termometreler
C) Gazlı termometreler
D) Hasta termometreleri

8. Sıcaklık ile ilgili;

- I. Bir enerjidir.
II. Madde miktarına bağlıdır.
III. Termometre ile ölçülür.

yargılarından hangileri doğrudur?

- A) Yalnız III B) I ve II
C) II ve III D) I, II ve III

9. Çaydanlıktaki 500 g suyun sıcaklığını 20°C'den 90°C'ye çıkarmak için suya verilmesi gereken ısı miktarı kaç kaloridir? (C_{su} = 1 cal/g°C)

- A) 35 B) 350
C) 3500 D) 35000

2. OTURUM

10. Bazı maddeler katı haldeyken ısı enerjisi olarak sıvı hâle geçmeden gaz hâline geçerler.

Bu olaya ne ad verilir?

- A) Sublimleşme
B) Yoğunlaşma
C) Buharlaşma
D) Erime

11. Aşağıdaki araçlardan hangisi kimyasal enerjiyi kinetik enerjiye çevirir?

- A) Florasan lamba
B) Elektrik motoru
C) Flaman ampul
D) Araba motoru

12. Aşağıdakilerden hangisi fosil yakıt değildir?

- A) Petrol B) Kömür
C) Deniz D) Doğal gaz

13. Aşağıdakilerden hangisi yenilenemez enerji kaynaklarına örnek olarak verilebilir?

- A) Nükleer enerji
B) Dalga enerjisi
C) Gelgit enerjisi
D) Jeotermal enerji

14. Bir maddenin sıcaklık değişiminden faydalanarak ısı miktarını ölçmeye yarayan araca ne ad verilir?

- A) Termometre
B) Dinamometre
C) Kalorimetre
D) Termistör

15. Bir öğrenci okul laboratuvarında kendi termometresini yapar ve kendi isminin baş harfini verir. Bu termometrede saf suyun donma sıcaklığını -30°M , kaynama sıcaklığını 120°M olarak belirler.

Bu termometre ile laboratuvarın sıcaklığını 15°M olarak okursa laboratuvarın sıcaklığı kaç $^{\circ}\text{C}$ 'dir?

- A) 32 B) 30 C) 28 D) 24

16. 5 g suyun sıcaklığını 15°C 'den 16°C 'ye çıkarmak için gerekli enerji kaç kaloridir?

($c_{\text{su}} = 1\text{cal/g}^{\circ}\text{C}$)

- A) 15 B) 8 C) 6 D) 5

17. Katı hâldeki bir maddenin enerji olarak sıvı hâle geçmesi olayına ne denir?

- A) Donma B) Erime
C) Buharlaşma D) Yoğuşma

18. Enerjinin maddesel ortama ihtiyaç duymadan yayılmasına aşağıdakilerden hangisi örnek verilebilir?

- A) Suyun ocakta kaynaması
B) Demirin ateşte ısıtılması
C) Güneş ışınlarının dünyaya ulaşması
D) Çay bardağının içindeki kaşığın ısınması

19. Dünyanın ortalama sıcaklığındaki artış (Küresel ısınma) sonucu aşağıdakilerden hangisinin olması beklenmez?

- A) Hayvan türlerinin azalması
B) Buzulların erimesi
C) Tatlı su kaynaklarının artması
D) Denizlerin ısınması

20. Enerji iletim hızını;

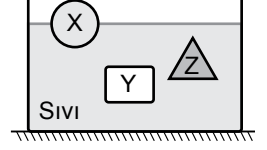
- I. Maddenin cinsi
II. Maddenin iki ucu arası sıcaklık farkı
III. Maddenin yüzey alanı

faktörlerinden hangileri etkiler?

- A) I, II ve III B) I ve II
C) II ve III D) I ve III

(423) FİZİK – 3

1. Eşit kütleli X, Y, Z cisimleri şekildeki gibi sıvı içerisinde yüzmektedir.



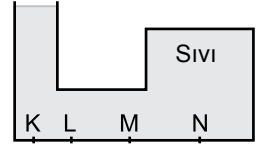
Cisimlere etki eden kaldırma kuvvetleri F_x , F_y , F_z arasındaki büyüklük ilişkisi nasıldır?

- A) $F_x > F_z > F_y$
B) $F_y > F_z > F_x$
C) $F_y = F_z > F_x$,
D) $F_x = F_y = F_z$

2. Kapalı kaplardaki gaz basıncı aşağıdaki hangi araç ile ölçülür?

- A) Altimetre B) Manometre
C) Batimetre D) Barometre

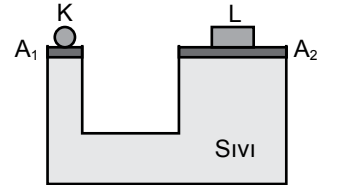
3.



İçi sıvı dolu kabın K, L, M, N noktalarındaki sıvı basınçları P_K , P_L , P_M , ve P_N arasındaki büyüklük sıralaması nasıldır?

- A) $P_K > P_N > P_L > P_M$
B) $P_N > P_M > P_L > P_K$
C) $P_K = P_L = P_M = P_N$
D) $P_K = P_N > P_L = P_M$

4. Aşağıdaki sıvılı sistem dengededir.



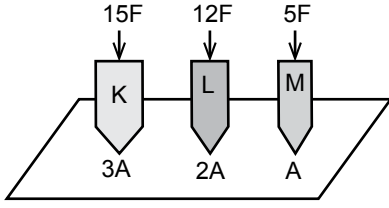
Ağırlığı önemsiz pistonların

kesit alanları oranı $\frac{A_1}{A_2} = \frac{1}{5}$ olduğuna göre L'nin ağırlığı K'nin ağırlığının kaç katıdır?

- A) 10 B) 8 C) 5 D) 2

2. OTURUM

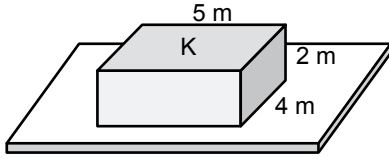
5. Özdeş K, L, M cisimleri şekilde görüldüğü gibi 15 F, 12F ve 5F'lik kuvvetlerle tahta zeminde basınç oluşturuyorlar.



Cisimlerin uç kısımlarının alanları 3A, 2A ve A olduğuna göre P_K , P_L ve P_M basınçları arasındaki büyüklük sıralaması nasıl olur?

- A) $P_L > P_K = P_M$
 B) $P_M > P_K > P_L$
 C) $P_K > P_L > P_M$
 D) $P_K > P_M > P_L$

6. Kenar uzunlukları 2 m, 5 m ve 4 m olan şekildeki dikdörtgenler prizmasının ağırlığı 3 N'dur.



Buna göre K yüzeyinin yatay düzleme yaptığı basınç kaç Pascal'dır?

- A) $\frac{3}{20}$ B) $\frac{3}{10}$ C) $\frac{3}{8}$ D) $\frac{3}{4}$

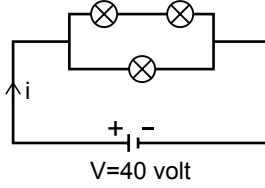
7. Metal tellerin elektrik direnci ile ilgili aşağıdaki ifadelerden hangisi yanlıştır?

- A) Telin direnci telin boyu ile doğru orantılıdır.
 B) Telin öz direnci maddeler için ayırt edici bir özellik değildir.
 C) Telin direnci telin türüne bağlıdır.
 D) Telin direnci telin kesit alanı ile ters orantılıdır.

8. Elektrikli soba, elektrikli fırın ve su ısıtıcılarında aşağıda öz dirençleri verilmiş hangi maddelerin tellerini kullanmak doğru olur?

Madde	Öz direnç ($\Omega \cdot m$)
A) Gümüş	$1,6 \cdot 10^{-8}$
B) Bakır	$1,7 \cdot 10^{-8}$
C) Altın	$2,4 \cdot 10^{-8}$
D) Tungsten	$5,6 \cdot 10^{-8}$

9. Şekildeki gibi bağlanmış özdeş ampullerin her birinin direnci 6Ω 'dur.



Devrenin uçları arasında uygulanan gerilim 40 volt olduğuna göre ana koldan gelen ve "i" ile gösterilen akım şiddeti kaç amperdir?

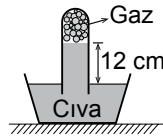
- A) 40 B) 18 C) 10 D) 8

10. İletken bir telin uçlarına 12 voltluk gerilim uygulayınca telin kesitinden 4 amper şiddetinde akım geçiyor.

Buna göre telin direnci kaç ohmdur?

- A) 2 B) 3 C) 4 D) 6

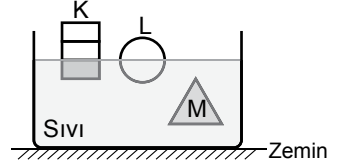
11. Açık hava basıncının 76 cm-Hg olduğu bir yerde şekildeki boruda civa yüksekliği 12 cm'dir.



Buna göre borudaki gaz basıncı kaç cm-Hg'dir?

- A) 76 B) 72 C) 64 D) 38

12. Ağırlıkları eşit K, L, M cisimleri şekildeki gibi sıvı içinde dengeledir.



Buna göre cisimlere etkileyen kaldırma kuvvetleri (F_K, F_L, F_M) arasındaki büyüklük ilişkisi nedir?

- A) $F_K = F_L = F_M$
 B) $F_K > F_L > F_M$
 C) $F_M > F_L > F_K$
 D) $F_K = F_L > F_M$

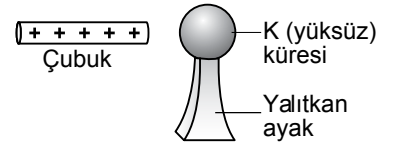
13. Elektrik yüklerinin kaynağı olan atomlarla ilgili;

- I. Proton, nötron ve elektron olan üç temel parçacıktan oluşur.
 II. Proton ve nötronlar atomun çekirdeğinde yer alır.
 III. Elektronlar atom çekirdeğinin çevresinde belirli yörüngelerde dolanırlar.

yargılarından hangileri doğrudur?

- A) Yalnız I B) I ve II
 C) II ve III D) I, II ve III

- 14.



Şekildeki + yüklü çubuk yalıtkan ayaklar üzerinde duran yüksüz K küresine dokundurulursa iletken küre nasıl yüklenir?

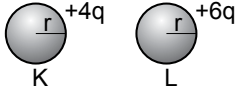
- A) B)
 C) D)

2. OTURUM

15. İletken ve yalıtkan maddeler hangi tabloda doğru verilmiştir?

A) İletken madde	Demir
Yalıtkan madde	Bakır
B) İletken madde	Altın
Yalıtkan madde	Cam
C) İletken madde	Porselen
Yalıtkan madde	Tuzlu su
D) İletken madde	Kağıt
Yalıtkan madde	Tahta

16.



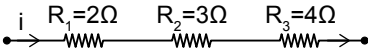
Yükleri $+4q$ ve $+6q$ olan r yarıçaplı K, L küreleri birbirlerine dokundurulup ayrılırsa kürelerin son yükleri kaç q olur?

K	L
A) $2q$	$5q$
B) $5q$	$5q$
C) $6q$	$4q$
D) $6q$	$6q$

17. Aralarındaki uzaklık 3 m olan $q_1 = 10^{-4}\text{ C}$ ve $q_2 = 2 \cdot 10^{-4}\text{ C}$ 'luk yüklü cisimlerin birbirlerine uyguladıkları kuvvetin büyüklüğü kaç N 'dir? ($k = 9 \cdot 10^9 \frac{\text{N} \cdot \text{m}^2}{\text{C}^2}$)

A) 20 B) 30 C) 60 D) 270

18. Şekildeki devre parçasından i elektrik akımı geçerken 2Ω 'luk dirençle harcanan güç 72 watt oluyor.



Buna göre $R_2 = 3\Omega$ 'luk direncin uçları arasındaki potansiyel farkı kaç voltur?

A) 36 B) 24 C) 18 D) 7

19. Ferromanyetik maddelerle ilgili;

- I. Bağıl manyetik geçirgenliği 1'den çok büyük olan maddelerdir.
- II. Demir, nikel kobalt oda sıcaklığında ferromanyetik maddedir.
- III. Ferromanyetik maddeler doğal mıknatis elektrik motoru ve jeneratör yapımında kullanılır.

yargılarından hangileri doğrudur?

- A) Yalnız III B) Yalnız II
C) I ve II D) I, II ve III

20. Aşağıdakilerden hangisinde elektromıknatis kullanılmaz?

- A) Dinamometre
B) Hoparlör
C) Manyetik vinçler
D) Televizyon

(424) FİZİK – 4

1. Esnek bir yayda oluşturulan periyodik dalganın 9 ardışık dalga tepesi arasındaki uzaklık 32 cm ölçüldüğüne göre bir dalga boyu kaç cm 'dir ?

- A) 1 B) 2 C) 3 D) 4

2. Periyodik bir dalga kaynağı dakikada 150 dalga üretmektedir.

Buna göre dalganın frekansı kaç s^{-1} 'dir?

- A) $\frac{15}{4}$ B) $\frac{1}{3}$
C) $\frac{5}{2}$ D) $\frac{2}{5}$

3. Aşağıda verilen:

- I Deprem dalgaları
- II. Su dalgaları
- III. X ışınları
- IV. Gama ışınları

ifadelerinden hangileri elektromanyetik dalgalar sınıflandırması içinde yer almaz?

- A) Yalnız I B) II ve III
C) III ve IV D) I ve II

4. Su dalgalarıyla ilgili,

- I Tepe ve çukur noktalardan oluşurlar
- II. Ortam değişmezse hızları değişmez
- III. Ortam değişince dalga boyu değişir

yargılarından hangileri doğrudur?

- A) I ve II B) II ve III
C) I, II ve III D) Yalnız I

5. Periyodu 5 s olan doğrusal bir dalga kaynağında ardışık 5 dalga tepesi arası uzaklık 40 cm olduğuna göre dalgaların hızı kaç cm/s 'dir?

- A) 2 B) 5 C) 10 D) 12

6. Bir ses kaynağından yayılan ses dalgaları çevredeki ses kaynaklarını titreştirebilir.

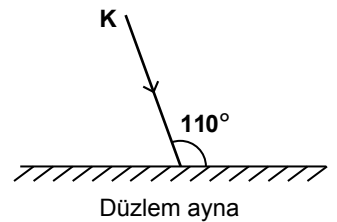
Buna göre frekansları aynı olan kaynaklardan biri titreştirildiğinde diğer ses kaynağının etki ile titreşmesi olayına ne ad verilir?

- A) Sönümlenme
B) Rezonans
C) Frekans
D) Diyapozon

7. Aşağıdakilerden hangisi yarı saydam cisimlere örnek verilir?

- A) Cam
B) Su
C) Mumlu kağıt
D) Hava

8. Düzlem aynaya şekildeki gibi gelen K ışını düzlem aynadan yansımaktadır.

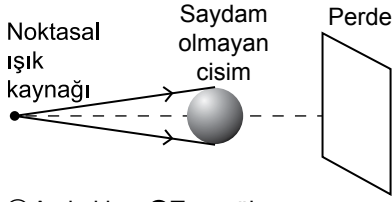


Buna göre ışının düzlem aynadan yansıma açısı kaç derecedir?

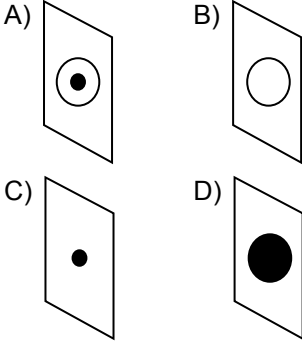
- A) 10 B) 20 C) 30 D) 40

2. OTURUM

9. Şekildeki noktasal ışık kaynağının uzağındaki saydam olmayan küresel cismin perde üzerinde oluşan görüntüsü aşağıdakilerden hangisidir?



○ Aydınlık ● Tam gölge



10. Sarmal bir yayda oluşturulan dalgaların hızları ile ilgili;

- Yayı geren kuvvetin büyüklüğünü arttırmak dalganın hızını artırır.
- Dalga oluşturulan ortamın fiziksel özellikleri değiştirilmeden dalganın genliğinin değiştirilmesi yayılma hızını değiştirmez.
- Hafif yay kullanılması dalgaların yayılma hızını artırır.

yargılarından hangileri doğrudur?

- A) Yalnız I B) I ve II
C) II ve III D) I, II ve III

11. Bir cismin düzlem aynaya olan uzaklığı 2m olduğuna göre görüntü ile cisim arasındaki uzaklık kaç metre olur?

- A) 12 B) 8 C) 6 D) 4

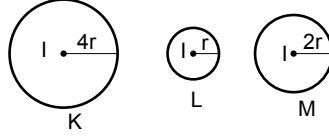
12. Aşağıdakilerden hangisi mekanik dalgalara örnek değildir?

- A) Radyo dalgaları
B) Su dalgaları
C) Yay dalgaları
D) Ses dalgaları

13. Deprem sonucu oluşan yer hareketlerini süreki kaydeden düzeneklere ne ad verilir?

- A) Sismoloji
B) Sismograf
C) Kriptoloji
D) Kaligraf

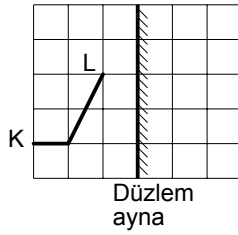
14. Yarıçapları $4r$, r , $2r$ olan K, L, M kürelerinin merkezlerinde özdeş ve ışık şiddetleri I olan kaynaklar bulunmaktadır.



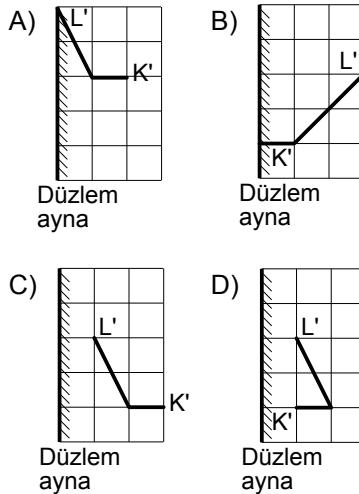
- Buna göre kürelerin iç yüzeylerindeki aydınlama şiddetleri E_K , E_L , E_M arasındaki büyüklük ilişkisi nedir?

- A) $E_K > E_M > E_L$
B) $E_L > E_M > E_K$
C) $E_L = E_M = E_K$
D) $E_L = 2E_M > E_K$

- 15.



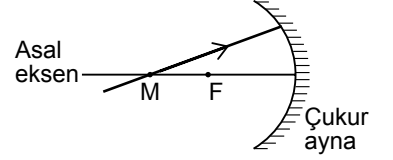
- Düzlem ayna önüne konulan KL cisminin görüntüsü aşağıdakilerden hangisidir?



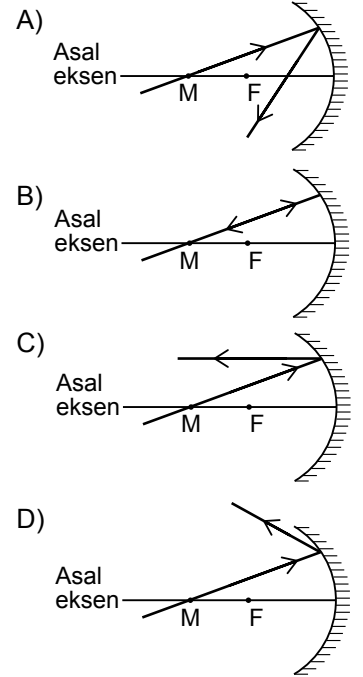
16. Bir cismin düzlem aynadaki görüntüsüne olan uzaklığı 120 cm ise görüntü ile ayna arasındaki uzaklık kaç santimetredir?

- A) 60 B) 90 C) 120 D) 180

- 17.



- Şekilde verilen çukur aynanın merkezinden gelen ışın aynada yansdıktan sonra hangi yolu izler?



18. Aşağıdakilerden hangisi ışığın ana renklerini oluşturur?

- A) Yeşil ışık + Yeşil ışık + Kırmızı ışık
B) Mavi ışık + Sarı ışık + Yeşil ışık
C) Kırmızı ışık + Yeşil ışık + Mavi ışık
D) Kırmızı ışık + Sarı ışık + Mavi ışık

2. OTURUM

19. İnce kenarlı bir mercekte sonsuzdaki bir cismin görüntüsüyle ilgili;

- I. Odakta olur.
- II. Gerçektir.
- III. Noktasaldır.

yargılarından hangileri doğrudur?

- A) Yalnız I
- B) I ve II
- C) II ve III
- D) I, II ve III

20. Güneş ışığı altında kırmızı gören kazak mavi ışık altında hangi renkte görünür?

- A) Siyah
- B) Kırmızı
- C) Mavi
- D) Sarı

(433) KİMYA – 3

Madde	Molekül polarlığı
Su	Polar
Brom sıvısı	Apolar
Karbon tetraklorür	Apolar
Etanol	Polar

Yukarıda bazı maddelerin molekül polarlığı ve apolarlığı verilmiştir.

Buna göre aşağıdaki madde çiftlerinden hangilerinin birbiri içerisinde iyi çözünmesi beklenir?

- A) Su - etanol
- B) Karbon tetraklorür - etanol
- C) Su - brom sıvısı
- D) Brom sıvısı - etanol

2. 50 mL etanol (C₂H₅OH)'ün yeterince su ile karıştırılarak elde edilen 200 mL etanol-su çözeltisindeki etanolün hacimce yüzdesi kaçtır?

- A) 10
- B) 20
- C) 25
- D) 50

3. I. Kütlece %12'lik şeker çözeltisi
II. Kütlece %24'lük şeker çözeltisi
III. Kütlece %36'lık şeker çözeltisi

Aynı şartlarda hazırlanan yukarıdaki sulu çözeltilerin kaynama noktalarının karşılaştırılması aşağıdakilerden hangisinde doğru verilmiştir?

- A) I = II = III
- B) I > II > III
- C) II > III > I
- D) III > II > I

I. Emülsiyon	a) Çamurlu su
II. Süspansiyon	b) Sis
III. Aerosol	c) Zeytinyağı- su

Yukarıda bazı heterojen karışım türleri ve örnekleri verilmiştir.

Buna göre aşağıdaki eşleştirmelerden hangisi doğrudur?

- A) I - a
- B) I - c
- II - b
- II - a
- III - c
- III - b
- C) I - c
- D) I - a
- II - b
- II - c
- III - a
- III - b

5. 50 gram sodyum klorürün (NaCl) 200 gram su içerisinde çözünmesi sonucu hazırlanan çözeltide sodyum klorürün kütlece yüzde derişimi kaçtır?

- A) 10
- B) 15
- C) 20
- D) 25

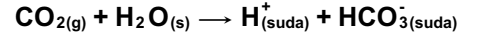
6. Aşağıdaki maddelerden hangisinin sudaki iyonlaşma denklemi yanlış verilmiştir?

- A) $\text{HCl}_{(suda)} \rightarrow \text{H}^+_{(suda)} + \text{Cl}^-_{(suda)}$
- B) $\text{NaOH}_{(suda)} \rightarrow \text{Na}^+_{(suda)} + \text{OH}^-_{(suda)}$
- C) $\text{NH}_3_{(suda)} \rightarrow \text{N}^{3-}_{(suda)} + 3\text{H}^+_{(suda)}$
- D) $\text{HNO}_3_{(suda)} \rightarrow \text{H}^+_{(suda)} + \text{NO}_3^-_{(suda)}$

7. $\text{HCl} + \text{NaOH} \rightarrow \dots + \text{H}_2\text{O}$ tepkimesi sonucu oluşan tuzun formülü aşağıdakilerin hangisinde doğru verilmiştir?

- A) NaCl
- B) Na₂O
- C) NaOCl
- D) NaH

8. CO₂ gazının suda çözünme denklemi aşağıdaki gibidir.



Buna göre CO₂ gazının sulu çözeltisi ile ilgili;

- I. Turnusol kağıdını kırmızıya çevirir.
- II. 25°C 'de pH değeri 7'den küçüktür.
- III. Elektrik akımını iletir.

verilenlerden hangileri doğrudur?

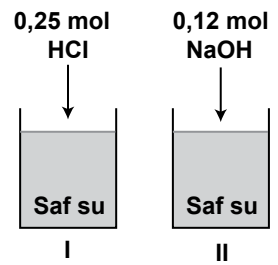
- A) Yalnız I
- B) I ve II
- C) II ve III
- D) I, II ve III

9. Ametallerin oksijence zengin bileşiklerine asit oksit denir.

Buna göre aşağıdaki maddelerden hangisi asit oksittir? (7N, 11Na)

- A) N₂O
- B) N₂O₃
- C) NO
- D) Na₂O

10. İçerisinde saf su bulunan kaplara üzerindeki maddeler eklenip, tamamen çözünüyor. Oluşan çözeltiler daha sonra birbiriyle karıştırılıyor.



Buna göre aşağıdaki açıklamalardan hangisi yanlıştır?

(Fenolftalein 8,3'ten küçük pH'larda renksiz, 10'dan büyük pH'larda pembe renklidir.)

- A) Nötrleşme tepkimesi olur.
- B) HCl'nin bir kısmı artar.
- C) Oluşan çözeltiye fenolftalein eklenirse pembe renge dönüşür.
- D) Oluşan çözelti elektrik akımını iletir.

2. OTURUM

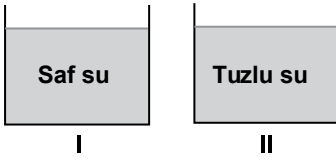
11. Kum ve şeker karışımındaki şekeri saf olarak elde edebilmek için;

- I. Buharlaştırma
- II. Suda çözme
- III. Süzme

işlemleri hangi sıra ile yapılmalıdır?

- A) II, III, I
- B) III, II, I
- C) I, II, III
- D) II, I, III

12.



Aynı ortamda bulunan yukarıdaki maddelerle ilgili;

- I. Donma noktası II > I'dir.
- II. Kaynama noktası II > I'dir.
- III. Yoğunluk II > I'dir.

Yargılarından hangileri doğrudur?

- A) Yalnız I
- B) Yalnız III
- C) I ve II
- D) II ve III

13. Aşağıda verilen madde örneklerinden hangisi homojen bir karışımdır?

- A) Kolonya
- B) Saf su
- C) Ayran
- D) Duman

14. Aşağıdaki saf suların içerisinde verilen miktarlardaki şekerler tamamen çözünerek çözeltiler hazırlanıyor.

- I. 100 g su + 20 g şeker
- II. 100 g su + 25 g şeker
- III. 100 g su + 18 g şeker
- IV. 100 g su + 15 g şeker

Buna göre elde edilen çözeltilerden hangisi daha seyreltiktir?

- A) I
- B) II.
- C) III.
- D) IV.

15. Saf su ile hazırlanan kütlece % 10'luk 50 gram tuz çözeltisinde kaç gram çözünmüş tuz bulunur?

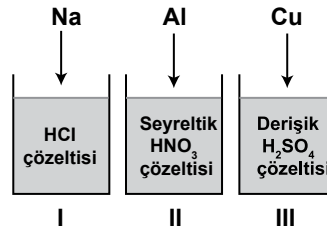
- A) 1
- B) 5
- C) 10
- D) 20

16. • Cam ve seramik maddeleri aşındırmada
• Yangın söndürücü köpüklerin üretiminde
• Isıya dayanıklı plastiklerin üretiminde

Bazı kullanım alanları verilen madde aşağıdakilerden hangisidir?

- A) HF
- B) HCl
- C) NaOH
- D) NH₃

17. Kaplarda bulunan çözeltilerin içerisine üzerinde verilen metaller ekleniyor.



Buna göre hangi kaplarda H₂ gazı açığa çıkar?

- A) Yalnız II
- B) I ve II
- C) I ve III
- D) I, II ve III

18. Bazı sulu çözeltilere ait pH değerleri aşağıdaki gibidir.

- pH = 0
- pH = 5
- pH = 9
- pH = 14

Buna göre bu çözeltilerden kaç tanesi baz çözeltilisidir?

- A) 1
- B) 2
- C) 3
- D) 4

19. Asit + Baz → Na₂SO₄ + 2H₂O

Yukarıda verilen tepkimede kullanılan asit ve baz aşağıdakilerin hangisinde doğru verilmiştir?

	Asit	Baz
A)	H ₂ S	NaOH
B)	NaOH	H ₂ SO ₄
C)	H ₂ SO ₄	NaOH
D)	NaOH	H ₂ S

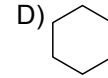
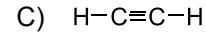
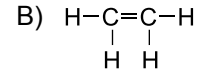
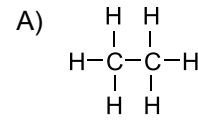
20. I. SO₂
II. SO₃
III. NO₂

Yukarıda verilenlerden hangileri asit yağmurlarına sebep olur? (7N, 8O, 16S)

- A) Yalnız I
- B) I ve II
- C) II ve III
- D) I, II ve III

(434) KİMYA – 4

1. Aşağıdakilerden hangisi alken sınıfı bir bileşiktir?



2. Kömürün yapısında bulunan karbon yüzdesi arttıkça birim kütlede açığa çıkaracağı ısı değeri artar.

Kömür türü	Kütlece karbon (C) yüzdesi
Linyit	25-35
Alt bitümlü kömürler	35-49
Bitümlü kömürler	45-85
Antrasit	> 85

Buna göre tabloda verilen kömür türlerinden eşit kütlelerde alınıp yakılırsa hangisinin ısı değeri diğerlerinden daha fazla olur?

- A) Linyit
- B) Alt bitümlü kömür
- C) Bitümlü kömürler
- D) Antrasit

3. Aşağıda verilenlerden hangisi bir monosakkarittir?

- A) Glükoz
- B) Selüloz
- C) Nişasta
- D) Maltoz

2. OTURUM

4. Bir laboratuvarında yapılan analiz sonucu dört farklı su örneğindeki Ca^{2+} iyonu miktarları tabloda verilmiştir.

Su örneği	1 L sudaki Ca^{2+} miktarı (mg)
1.örnek	15
2.örnek	7
3.örnek	18
4.örnek	4

Buna göre hangi su örneği diğerlerine göre daha yumuşaktır?

- A) 1. örnek B) 2. örnek
C) 3. örnek D) 4. örnek

5. Petrol ürünlerinde kütlece yüzde bileşimi en fazla olan element aşağıdakilerden hangisidir?

- A) Oksijen (O)
B) Hidrojen (H)
C) Karbon (C)
D) Kükürt (S)

6. Aşağıda verilenlerden hangisi sabunlar ve deterjanlar için ortak özelliştir?

- A) Bitkisel ve hayvansal yağlardan elde edilir.
B) Hidrofil ve hidrofob uç içerir.
C) Sert sulardan çok az etkilenir.
D) Doğada kolay parçalanamayan maddelerden oluşur.

7.

Bileşik formülü	Yaygın adı
I. $CaCO_3$	a) Sönmüş kireç
II. CaO	b) Kireç taşı
III. $Ca(OH)_2$	c) Sönmemiş kireç

Yukarıda bazı yapı malzemelerine ait bileşik formülleri ve yaygın adları verilmiştir.

Buna göre bileşik formülleri yaygın adları ile eşleştirildiğinde aşağıdakilerden hangisi doğru olur?

- A) I-b B) I-b
II-c II-a
III-a III-c
- C) I-c D) I-a
II-a II-b
III-b III-c

8. I. Plastikler
II. Piller ve aküler
III. Endüstri atıkları

Yukarıda verilenlerden hangileri toprak kirliliğine neden olan etkenlerdendir?

- A) Yalnız I B) I ve II
C) II ve III D) I, II ve III

9. Aşağıdakilerden hangisi katı atıkların geri kazanılmasının faydaları arasında yer almaz?

- A) Ham madde israfını önler.
B) Çevre kirliliğini azaltır.
C) Fosil yakıtların kullanımını artırır.
D) Ekonomik gelir sağlar.

10. Aşağıdakilerden hangisi suyun kirlenmemesi ve zarar olmaması için alınacak önlemlerden biri değildir?

- A) Yerleşim yerleri tatlı su kaynaklarının yakınında kurulmalı.
B) Yeraltı sularından yararlanılan yerlerde kirli suların toprağa karışması önlenmeli.
C) Evlerde bulaşık makinada yıkanmalı.
D) Evsel endüstriyel atık sular arıtım tesislerinde arıtılmalı.

11. Aşağıdakilerden hangisi fosil yakıtlardan biri değildir?

- A) Kömür B) Rüzgâr
C) Ham petrol D) Linyit

12. Aşağıdaki açıklamalardan hangisi kömürün yakıt olarak kullanılmasının avantajları içerisinde yer almaz?

- A) Dünya üzerinde çok miktarda rezervi vardır.
B) Güvenli bir şekilde saklanabilir.
C) Gerekli enerji üretmek için kullanılabilir.
D) Tüketimi sırasında havadaki CO_2 oranı artar

13. Vücutta daha çok büyüme, gelişme ve onarım için gerekli moleküllerin sentezinde işe yarar. Gerekli enerji üretiminde de kullanılabilir.

Yukarıda bahsedilen besin maddesi aşağıdakilerden hangisidir?

- A) Yağ B) Karbonhidrat
C) Protein D) Yağ asidi

14. Aşağıdakilerden hangisi karbonhidratların yapısında bulunan temel elementlerden biri değildir?

- A) H B) C C) N D) O

15. Aşağıdakilerden hangisi ham petrolü bileşenlerine ayırmak için kullanılan ayırma işlemidir?

- A) Damıtma
B) Ayırma hunisi
C) Flotasyon
D) Ayrımsal kristallendirme

16. Aminoasit molekülünde - I - - grubuna amino, - II - - grubuna karboksil grubu denir.

Yukarıda verilen açıklamadaki I ve II numaralı boşluklara aşağıdakilerden hangisi getirilmelidir?

	I	II
A)	-OH	-CN
B)	-NH ₂	-COOH
C)	-COOH	-NH ₂
D)	-CN	-OH

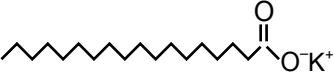
17. Aşağıdakilerden hangisi şehir sularının arıtım aşamalarından biri değildir?

- A) Dinlendirme
B) Sertlik giderme
C) Süzme
D) Ayrımsal kristallendirme

18. Aşağıdakilerden hangisi toprak kirliliğinin oluşmasına sebep olan etkenler arasında yer almaz?

- A) Asit yağmurları
B) Çöpler
C) Ağaçlandırma yapılması
D) Toprağın aşırı gübrelenmesi

2. OTURUM

19. 
Verilen organik bileşik ile ilgili;
I. Halk arasında arap sabunu olarak bilinir.
II. Hidrofil ve hidrofob kısımları vardır.
III. Suda çözünür.
yargılarından hangileri doğrudur?

- A) Yalnız II B) I ve II
C) II ve III D) I, II ve III

20. Aşağıdakilerden hangisi hava kirliliğini önlemek için alınması gereken tedbirler arasında yer almaz?
- A) Fosil yakıtların tüketilmesi
B) Planlı yapılaşma
C) Fabrikalardan çıkan gazların filtre edilmesi
D) Yakma sistemlerinin geliştirilmesi

(443) BİYOLOJİ – 3

1. Aşağıdakilerden hangisi mitoz sonucunda oluşan yavru hücrede ana hücreden farklı olabilir?
- A) DNA miktarı
B) Genetik yapısı
C) Sitoplazma miktarı
D) Kromozom sayısı
2. Aşağıdakilerden hangisi, günümüzde kanser tedavisinde uygulanan radyoterapi yöntemini tanımlamaktadır?
- A) Kanserli dokulara yüksek enerjili ışın verilmesi.
B) İlaç tedavisi uygulayarak kanserli hücrelerin bölünmesinin önlenmesi.
C) Kanser hastasının sağlıklı besinlerle dengeli beslenmesi.
D) Kanser teşhis edilmesinden sonra, alkol ve sigara kullanımının bırakılması.

3. Aşağıdakilerden hangisi mitozun metafaz evresi ile ilgili değildir?
- A) Mitozun ilk evresidir.
B) Çekirdek zarı iyice parçalanır.
C) Kromozomların mikroskopta en belirgin görüldüğü evredir.
D) Kromozomlar ekvator düzlemine dizilir.

4. I. Besin sıkıntısı
II. pH oranındaki değişiklikler
III. Metabolizma atıklarının birikmesi

Yukarıda verilenlerden hangileri bakterilerin üremesini sınırlar?

- A) Yalnız I B) Yalnız II
C) Yalnız III D) I, II ve III

5. $2n = 4$ kromozumlu bir hayvan hücresinin mitoz bölünmesi sonucunda oluşacak yavru hücrenin kromozom sayısı ne kadardır?

- A) $n = 2$ B) $2n = 4$
C) $2n = 2$ D) $n = 4$

6. Aşağıdakilerden hangisi kanser hastalığının oluşumuna neden olmaz?

- A) Sigara ve alkol kullanımı
B) Güneş ışınlarının uzun süreli etkisi
C) Sağlıklı ve dengeli beslenme
D) Virüslerin neden olduğu hastalıklara yakalanma

7. Prokaryot hücre tipine sahip bakteri ve arkeler ile ökaryot hücre tipine sahip amip, paramesyum ve öglena gibi protistlerdeki eşeysiz üreme tipi aşağıdakilerden hangisidir?

- A) Vejetatif üreme
B) Tomurcuklanma
C) Sporla üreme
D) Bölünerek üreme

8. Aşağıdakilerden hangisi rejenerasyonla eşeysiz üremeye örneklerdir?

- A) Kertenkelenin kopan kuyruğunu onarması
B) Denizyıldızının kopan kolunu yenilemesi
C) İnsanda kırılan kemiğin onarılması
D) İki eşit parçaya bölünen planaryada her bir parçanın kendini tamamlaması

9. Aşağıdaki bitki üreme örneklerinin hangisinde kalıtsal olarak ataya tıpa tıpa benzemeyen yeni bireyler oluşabilir?

- A) Patatesteki yumru gövdenin göz (nodyum) bulunan kısımlarından oluşacak yeni bitkilerde.
B) Afrika menekşesinden alınan yaprağın köklendirilmesi ile oluşacak bireyde.
C) Fasulye tohumunun çimlendirilmesi ile elde edilecek bireyde.
D) Çilekte sünenücü gövde ile oluşacak bireylerde.

10. Mayoz bölünmenin profaz I evresindeki cross-over ile ilgili aşağıdakilerden hangisi doğru değildir?

- A) Homolog kromozomların kardeş olmayan kromatitleri arasındaki parça alışverişidir.
B) Mayozda cross-over mutlaka gerçekleşmek zorundadır.
C) Yeni gen kombinasyonlarının ortaya çıkmasını sağlar.
D) Cross-over ile ortaya çıkan durum genetik çeşitliliğin artmasını sağlar.

11. İnsan dişi üreme sisteminde döl yatağının iç kısmında bulunan ve mukus salgılayıp bol miktarda kan damarı taşıyan tabaka aşağıdakilerden hangisi ile tanımlanır?

- A) Yumurtalık
B) Yumurta kanalı
C) Endometriyum
D) Serviks

2. OTURUM

12. Menstrual döngünün bu evresinde FSH'nin etkisiyle foliküllerden biri gelişir ve içinde yumurta hücresi olgunlaşır. Gelişen folikül hücreleri çok östrojen, az progesteron salgılar. Evre 10-14 gün arasında sürer.

Özellikleri verilen menstrual döngü evresi aşağıdakilerden hangisidir?

- A) Folikül evresi
B) Ovulasyon evresi
C) Korpus luteum evresi
D) Menstruasyon evresi

13. Aşağıdakilerden hangisi cinsel yolla bulaşan hastalıklardan biri değildir?

- A) HPV
B) AIDS
C) Frengi
D) Dizanteri

14. Arılarda gözlenen partenogenez olayı için,

- I. Döllenmemiş yumurtalardan erkek arılar oluşur.
II. Erkek arıların kalıtsal yapısı birbirinin aynısıdır.
III. Kraliçe ve işçi arıların kalıtsal yapısında farklılık yoktur.

verilenlerden hangileri doğrudur?

- A) Yalnız I
B) I ve II
C) I ve III
D) II ve III

15. İnsan embriyosunun büyüyecek gelişmesi aşağıdakilerden hangisi ile olur?

- A) Mayoz bölünme
B) Mitoz bölünme
C) Döllenme
D) Aşılma

16. I. Zigot
II. Blastomer
III. Morula

İnsan embriyosu gelişirken verilenler hangi sıraya göre oluşur?

- A) I – II – III
B) I – III – II
C) II – I – III
D) II – III – I

17. Embriyonun tüm örtülerini en dıştan saran koruyucu zara ne ad verilir?

- A) Amniyon
B) Vitellus
C) Koriyon
D) Allantoyis

18. Menstruasyonun ovulasyon evresinde etkin olan hormon hangisidir?

- A) FSH
B) LH
C) Östrojen
D) Progesteron

19. Amniyosentez yöntemi uygulanırken verilenlerden hangisine dikkat edilmez?

- A) Hamileliğin 16. haftasında olmasına
B) Ayrıntılı ultrason yapıldıktan sonra uygulanmasına
C) Bebeğin rahim içindeki durumu tespit edildikten sonra yapılmasına
D) Embriyonun rahime tutunduğunun anlaşılmasından sonra uygulanmasına

20. Aşağıdakilerden hangisi erkek üreme sistemiyle ilgili değildir?

- A) Epididimis
B) Uterus
C) Semifer tüpçük
D) Vas deferens

(444) BİYOLOJİ – 4

1. Aşağıda üç karakter bakımından genotipi verilen bireylerden hangisinin oluşturabileceği gamet çeşidi en fazladır?

- A) AABBCc
B) AaBBCC
C) AaBbcc
D) AaBbCc

2. AB kan grubu bireyin, ABO sistemine göre alyuvarında bulunan antijen ve kan plazmasındaki antikor aşağıdakilerden hangisidir?

	Alyuvarda Antijen	Plazmada Antikor
A)	A, B	Yok
B)	A	Anti - B
C)	B	Anti - A
D)	Yok	Anti - A ve Anti - B

3. Farelerin 20 döl boyunca kuyruklarını keserek vücut hücrelerinde oluşan değişmelerin kalıtsal olarak yavru döllere geçmediğini ilk kanıtlayan bilim adamı aşağıdakilerden hangisidir?

- A) Johansson
B) Gregor Mendel
C) Hugo De Vries
D) August Weismann

4. I. AA
II. Aa
III. aa

Yukarıda genotipleri verilen bireylerden hangileri fenotipte baskın özelliği gösterir?

- A) Yalnız I
B) Yalnız II
C) I ve II
D) II ve III

5. Saf döl sarı ve yeşil tohumlu bezelyelerin çaprazlanması sonucunda oluşan tüm bezelyeler (F₁ dölü) sarı tohumludur.

Bu çaprazlama ile ilgili aşağıdakilerden hangisi yanlıştır?

- A) Sarı tohum, yeşil tohum özelliğine baskındır.
B) Yeşil tohum özelliği büyük harf ile gösterilir.
C) Yeşil tohumlu bezelyeler bu karakter bakımından homozigottur.
D) F₁ dölleri bu karakter bakımından heterozigottur.

6. ♀ AaBb X ♂ AaBB

Yukarıdaki çaprazlama sonucunda ab fenotipli bireyin oluşma ihtimali nedir?

- A) % 0
B) % 25
C) % 50
D) % 100

7. Endülüs tavuklarında siyah ve beyaz tüylülük alelleri arasında eksik baskınlık vardır. Heterozigot bireyde tüy rengi mavidir.

Buna göre, mavi tüylü iki bireyin çaprazlanması sonucunda oluşacak döllerde bu karakter bakımından kaç farklı genotip görülebilir?

- A) 1
B) 2
C) 3
D) 4

2. OTURUM

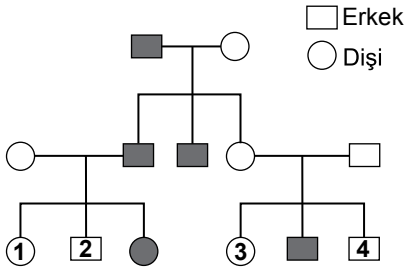
8. Aşağıdaki örneklerden hangisinde eşey, genotipik olarak belirlenmektedir?

- A) İnsanda $2n=46$ kromozomdan 2 tanesi eşey kromozomlarıdır. Eşey kromozomları XX ise dişi, XY ise birey erkektir.
 B) *Bonellia viridis* deniz kurdu larvası bulunduğu ortamda, dişi birey yoksa dişi, eğer dişi birey varsa dişinin hortumuna yapışarak oluşan birey erkektir.
 C) *Arisaema japonica* bitkisinde, büyük soğanlı olanlar dişi çiçek oluştururken, küçük soğanlılarda erkek çiçekler oluşur.
 D) Bir salyangoz çeşidinde (*Crepidula fornicata*) tek başına gelişen larva dişi, ortamda dişi varsa gelişen larva erkektir.

9. Aşağıdakilerden hangisi, istenilen farklı özelliklere sahip canlıların seçilip birbirleriyle eşleştirilerek anne ve babanın beğenilen özelliklerini taşıyan bireylerin elde edilmesi yöntemidir?

- A) Yapay dölleme
 B) Geleneksel ıslah
 C) Gen klonlaması
 D) Modern biyoteknoloji

10.



Yukarıdaki soy ağacında renk körlüğü bakımından hasta olan bireyler koyu simgelerle gösterilmiştir.

Soy ağacındaki bilgilere göre numaralı bireylerden hangisinin genotipi kesin olarak belli değildir?

- A) 1 B) 2 C) 3 D) 4

11. Aşağıda verilen organizmalardan hangisi kemoototrof canlılara örnek verilmez?

- A) Siyanobakteri
 B) Nitrobakter
 C) Nitrosomonas
 D) Kükürt bakterileri

12. Hücrelerdeki kromozom sayısının biyoteknolojik yöntemlerle $3n$ ve daha fazla olmasının sağlanmasıyla daha iri çiçekli ve meyveli bitkilerin elde edilmesi yöntemi verilenlerden hangisidir?

- A) Yapay dölleme
 B) Klonlama
 C) Poliploidi
 D) Geleneksel ıslah

13. Aşağıda verilenlerden hangisi bir popülasyon örneğidir?

- A) Beynam Ormanı'ndaki çamlar
 B) Eğirdir Gölü'ndeki sazan balıkları
 C) Karadeniz Bölgesi'ndeki canlılar
 D) Kahramanmaraş'taki bitkiler

14. Aşağıda verilenlerden hangisi ekosistemin abiyotik faktörlerinden biri değildir?

- A) Sıcaklık B) Mineraller
 C) Toprak D) Ayırıştırıcılar

15. I. Otçul memeli – Selüloz sindiren bakteri
 II. Timsah – Kürdan kuşu
 III. Yengeç – Denizgülü
 IV. Mantar – Alg

Verilen simbiyoz yaşam şekilleri, protokooperasyon (a) ve sıkı mütualizm (b) şeklinde sınıflanırsa aşağıdakilerden hangisi doğru olur?

- | | a | b |
|----|-----------|----------|
| A) | I ve III | II ve IV |
| B) | II ve III | I ve IV |
| C) | II ve IV | I ve III |
| D) | III ve IV | I ve II |

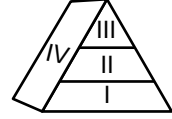
16. Dış parazitlerle (ektoparazit) ilgili verilenlerden hangisi doğrudur?

- A) Duyu organları körelmiştir.
 B) Tenya ve Plazmodyum örnek verilir.
 C) Sindirim sistemleri yoktur.
 D) Hareket organları gelişmiştir.

17. Aşağıda verilen biyom tiplerinden hangisi ülkemiz sınırları içinde yoktur?

- A) Yaprak döken ormanlar
 B) İğne yapraklı ormanlar
 C) Tropikal yağmur ormanları
 D) Ilıman bölge ormanları

18.



Verilen besin piramidi için hangisi yanlış bir açıklamadır?

- A) I' deki canlılar ototrof beslenir.
 B) II' deki canlıların sindirim kanalında selüloz sindiren bakteri bulunabilir.
 C) III' teki canlıların kesici-köpek dişleri gelişmiş olabilir.
 D) IV' teki canlılar sadece kemoototrof beslenme gösterir.

19. I. Toprağa baklagil ekimi yapılması
 II. Nitrat bakterilerinin sayıca artması
 III. Denitrifikasyon faaliyetinin hızlanması

Numaralandırılmış durumlardan hangileri bitkiler için topraktaki kullanılabilir azot oranını artırır?

- A) Yalnız II B) I ve II
 C) I ve III D) II ve III

20. Biyomlarla ilgili,

- I. Geniş coğrafi bölgeleri kaplayan büyük ekosistem çeşitleridir.
 II. Sadece biyotik faktörler bir araya gelerek biyomları oluşturur.
 III. Her biyomun iklim ve canlı tipi tek biridir.

Verilenlerden hangileri doğrudur?

- A) Yalnız I B) Yalnız II
 C) I ve III D) II ve III

2. OTURUM

(451) ÇAĞ.TÜRK VE DÜN.TAR. – 1

1. Aşağıdakilerden hangisi, dünyanın kesin olarak iki bloğa ayrıldığıнын ve ABD - Rusya soğuk savaşının başladığıнын bir göstergesi olarak kabul edilir?

- A) Marshall Planı
- B) Truman Doktrini
- C) Monroe Doktrini
- D) Berlin Duvarı'nın örülmesi

2. Komünizmle idare edilen ülkeleri NATO'ya karşı korumak amacıyla, aşağıdaki uluslararası örgütlerden hangisi kurulmuştur?

- A) Varşova Paktı
- B) COMECON
- C) Balkan Antantı
- D) COMINFORM

3. • Stalin'in ölümünden sonra 1954'ten itibaren Yugoslavya'nın SSCB'ye tekrar yaklaşması
• Türk - Yunan ilişkilerinin Kıbrıs meselesinden dolayı bozulması

Verilen gelişmeler, aşağıdakilerden hangisini olumsuz etkilemiştir?

- A) Bağdat Paktı'nı
- B) Balkan Paktı'nı
- C) Balkan Antantını
- D) Afrika Birliği Teşkilatını

4. Birleşmiş Milletler Örgütü (BM) aşağıdaki savaşların hangisinden sonra kurulmuştur?

- A) 93 Harbi
- B) Balkan Savaşları
- C) I. Dünya Savaşı
- D) II. Dünya Savaşı

5. II. Dünya Savaşı sonrasında görülen Türk ekonomisindeki canlanma hangi yılda sona ermiştir?

- A) 1947
- B) 1951
- C) 1954
- D) 1971

6. Locarno Antlaşması ile aşağıdaki devletlerden hangisi uluslararası iş birliğine yeniden katılmıştır?

- A) İtalya
- B) Almanya
- C) İspanya
- D) Hollanda

7. Japonya; 1933'te Milletler Cemiyetinden, 1934'te de Washington Antlaşması'ndan çekilmekle, aşağıdakilerden hangisini amaçlamış olabilir?

- A) Mançurya'yı işgal etmeyi
- B) Müttefik Devletler safına geçmeyi
- C) Mihver Devletler blokunun lideri olmayı
- D) Asya'daki faaliyetlerinde serbest hareket edebilmeyi

8. Eylül 1938'de "Hatay Devleti" adını alan sancak, aşağıdakilerden hangisidir?

- A) Şam
- B) İçel
- C) Kozan
- D) İskenderun

9. I. Dünya Savaşı sırasında Almanya'nın üzerinde bulunduğu toprakların Alman ırkına yeterli gelmeyeceğine ilişkin mevcut olan fikrin, Hitler tarafından Almanya'nın Avrupa'da yayılma politikasının bir gerekçesi olarak kabul edilmesi sonucunda ortaya çıkan kavram, aşağıdakilerden hangisiyle isimlendirilir?

- A) Nazizm
- B) Barbarossa
- C) Hayat Sahası
- D) Basmacı Hareketi

10. II. Dünya Savaşı'nın Kuzey Afrika Cephesi'nde karşı karşıya gelen devletler, aşağıdakilerin hangisinde birlikte verilmiştir?

- A) İtalya - İngiltere
- B) İngiltere - Fransa
- C) Fransa - Japonya
- D) Almanya - Sovyet Rusya

11. Aşağıdakilerden hangisi II. Dünya Savaşı'nın çıkacağıнын önceden görülen belirtilerinden biri değildir?

- A) Sovyetler Birliği'nin Türkiye'den Boğazları istemesi
- B) Almanya'nın Ren Bölgesi'ne asker göndermesi
- C) Japonya'nın Mançurya'ya saldırması
- D) İtalya'nın Habeşistan'ı işgal etmesi

12. Almanya, aşağıdaki konferanslardan hangisinde dört işgal bölgesine ayrılmış ve bu bölgeler Amerika Birleşik Devletleri, Birleşik Krallık (İngiltere), Fransa ve Sovyetler Birliği'nin yönetimine bırakılmıştır?

- A) Tahran Konferansı
- B) Moskova Konferansı
- C) Potsdam Konferansı
- D) Kazablanka Konferansı

13. "Tokyo Körfezi'nde demirli - - - - Zırhlısı'nda yapılan görüşmeler sonrasında 2 Eylül 1945'te Başbakan Suzuki, Japonya'nın yönetimini General Mac Arthur'a devrini öngören antlaşmayı imzalamıştır."

Verilen cümlede boş bırakılan yere, aşağıdakilerden hangisi yazılmalıdır?

- A) Bouvet
- B) Missouri
- C) Maryland
- D) New Jersey

14. Aşağıda ikili verilen devletlerden hangisi II. Dünya Savaşı sonunda dünya gücü olarak ortaya çıkmıştır?

- A) İtalya - Almanya
- B) Fransa - İngiltere
- C) Almanya - Japonya
- D) ABD - Sovyet Rusya

15. İstanbul Radyosu deneme yayınlarından sonra hangi yıl sürekli yayına geçmiştir?

- A) 1923
- B) 1938
- C) 1943
- D) 1955

2. OTURUM

(455) DEM. ve İNSAN HAK. – 1

16. Aşağıdaki komutanlardan hangisi Basmacı Hareketi'ne katılmıştır?

- A) Rauf Orbay
- B) Enver Paşa
- C) Fevzi Çakmak
- D) Kâzım Karabekir

17. I. Dünya Savaşı'ndan sonra aşağıdaki hangi devletlerde totaliter rejimler iş başına gelmiştir?

- A) ABD ve İtalya
- B) Fransa ve İran
- C) İtalya ve Almanya
- D) Fransa ve İngiltere

18. Aşağıdakilerden hangisi I. Dünya Savaşı sonunda yenen devletlerin yenilen devletlerle imzaladıkları barış antlaşmalarının ortak özelliklerinden biri değildir?

- A) Avrupa'da kalıcı barışı sağlamışlardır.
- B) Büyük devletlerin çıkarlarını korumaya yöneliktirler.
- C) Yenilen devletlere ağır ekonomik yükümlülükler getirmişlerdir.
- D) Yenilen devletlerin topraklarının küçülmesine neden olmuşlardır.

19. Paris Barış Konferansı'nda Milletler Cemiyetinin kurulmasına öncülük eden devlet, aşağıdakilerden hangisidir?

- A) Rusya
- B) Fransa
- C) İngiltere
- D) ABD

20. Bolşeviklerin güçlenmesi için 20. yüzyılın ilk çeyreğinde "Yeni Ekonomik Politika" (Novaya Ekonomiçeskaya Politika - NEP) dönemini başlatan Rus lider aşağıdakilerden hangisidir?

- A) Lenin
- B) Stalin
- C) Kruşçev
- D) Çar II. Nikola

1. Kişilerin eğitim ve öğrenim hakkı aşağıda verilen hangi temel haklardandır?

- A) Koruyucu haklar
- B) Yaşama hakkı
- C) İsteme hakları
- D) Sağlık hakkı

2. Pozitif hukuk normları en üstte, genel ve soyut olandan özel ve somut olana doğru hiyerarşik olarak sıralandığında bu normların en üst basamağında aşağıdakilerden hangisi yer alır?

- A) Anayasa
- B) Kanun
- C) Tüzük
- D) Yönetmelik

3. • Tüm insanların, insan olmaları bakımından birbirleriyle aynı değerde olması
• Hukuk kurallarının kişilere belli yönde davranmaya izin vermesi, bir şeyleri istemeye yetkili kılması
• Başkasına zarar vermeden kişinin dilediğini yapabilmesi

Yukarıda tanımları verilen kavramlar hangisinde sırasıyla doğru olarak verilmiştir?

- A) Özgürlük – Eşitlik – Hak
- B) Hak – Özgürlük – Eşitlik
- C) Özgürlük – Hak – Eşitlik
- D) Eşitlik – Hak – Özgürlük

4. Aşağıdaki sistemlerden hangisi hukuk devletini simgeler?

- A) Irk üstünlüğüne bağlı devlet
- B) Adaletle dayalı devlet
- C) Bir sınıfın üstünlüğüne bağlı devlet
- D) Kanunların yöneticilere ayrıcalık tanıdığı devlet

5. Aşağıdakilerden hangisi devletin varlığı için gerekli olan unsurlardan biri değildir?

- A) Halk
- B) Ülke
- C) Siyasi parti
- D) Egemenlik

6. Aşağıdakilerden hangisi sosyal devlet olmanın öncelikli gereklindedir?

- A) Kişilere inançlarından dolayı baskı yapılmaması
- B) Devlet faaliyetlerinin belirliliği
- C) İdarenin yargısal denetimi
- D) Gelir adaleti ve eşitlik

7. Temel hak ve özgürlükleri güvenceye almakla birlikte önceliği devlete veren, temel hak ve özgürlüklerin kullanılmasıyla ilgili kısıtlayıcı tedbirlere başvurabilen ve 1982 Anayasası ile şekillenen devlet anlayışı hangisidir?

- A) İnsan haklarına saygılı devlet anlayışı
- B) Aristokratik devlet anlayışı
- C) Monarşik devlet anlayışı
- D) Laik devlet anlayışı

8. Ülkemizde uygulanmakta olan seçim sistemi ülke barajı aşağıdakilerden hangisinde verilmiştir?

- A) % 8
- B) % 10
- C) % 5
- D) % 3

9. Aşağıdakilerden hangisi demokratik siyasal sistemin temel ilkelerindedir?

- A) Yasalar karşısında bazı bireylerin ayrıcalıklı olması
- B) Devletin başlı başına bir amaç olması
- C) Halk egemenliğine dayanması
- D) Kuvvetler birliğini esas alması

10. Aşağıdakilerden hangisi siyasi partilerin işlevlerinden değildir?

- A) İktidarı eleştirip denetlemesi
- B) Ülkeyi yönetecek lider kadrolarını eğitmesi
- C) Halk ve iktidar arasında aracılık yapması
- D) İktidarda bulunanların başına buyruk hareket etmelerini sağlaması

2. OTURUM

11. **Gülhane Hattı Humayunu'nun (1839 yılı) devlet otoritesinin kullanımını konusunda getirdiği en önemli yenilik aşağıdakilerden hangisidir?**

- A) Müslümanlarla gayrimüslimlere eşit haklar tanınması
- B) Herkese can, mal namus güvenliği sağlanması
- C) Vergi alanında yeni düzenlemeler getirmesi
- D) Padişahın yetkilerinin tek tarafı olarak kısıtlanması

12. **Aşağıdakilerden hangisi 1921 Anayasası'nın özelliklerindedir?**

- A) Kuvvetler ayırımına dayanması
- B) Hak ve özgürlüklere yer verilmesi
- C) Meclis hükümeti sistemini benimsemesi
- D) İnsan haklarına dayalı devlet anlayışına yer verilmesi

13. **Aşağıdakilerden hangisi demokratik yönetimlerde insan haklarının gerçekleştirilmesinde karşılaşılan sorunlardan değildir?**

- A) Eğitimsizlik
- B) Toplumda yerleşik bulunan yanlış gelenekler
- C) Devletin ekonomik olanaklarının yetersiz olması
- D) Kamu düzeni ve temel haklar arasındaki dengenin kurulması

14. I. Onaylandıklarında taraf devletler için bağlayıcı bir nitelik kazanırlar.
II. Daha çok yol gösterici ve tavsiye niteliğindedirler.
III. Bildirge ile sağlanan hakların korunması için yaptırım organı oluşturulmuştur.

Yukarıdakilerden hangileri uluslararası bildirgelerin niteliklerindedir?

- A) Yalnız I
- B) Yalnız II
- C) I - II
- D) II - III

15. • Çalışma saatlerinin azaltılması
• Çalışma ücretlerinin artırılması
• Çalışanlara örgütlenme haklarının sağlanması

Verilen alanlarda yaptığı çalışmalarla insan haklarının gelişmesine katkı sağlayan kuruluş aşağıdakilerden hangisidir?

- A) Uluslararası Çalışma Örgütü
- B) Uluslararası PEN Kulübü
- C) Uluslararası Af Örgütü
- D) Uluslararası Kızılhaç Komitesi

16. **Aşağıdakilerden hangisi Birleşmiş Milletler Örgütü bünyesinde bulunan komite ve kuruluşlardan değildir?**

- A) Irk Ayrımcılığının Kaldırılması Komitesi
- B) Avrupa İnsan Hakları Mahkemesi
- C) İşkenceye Karşı Komite
- D) Çocuk Hakları Komitesi

17. **Aşağıdakilerden hangisi insan haklarının korunmasında karşılaşılan sorunlardan değildir?**

- A) Savaşlar
- B) Uluslararası terör
- C) Bölgeler arası kalkınmışlık farklarının giderilmesi
- D) Bilim ve teknoloji alanındaki gelişmelerin kontrolsüz kullanımı

18. **Anlamı "yeniden doğuş" olan sözcük aşağıdakilerden hangisidir?**

- A) Rönesans
- B) İnkılap
- C) Reform
- D) Çağdaşlaşma

19. **Din ve devlet işlerinin birbirinden ayrılması, devlete ilişkin kurum ve kuralların dinin emir ve yasaklarından değil de pozitif hukuk kurallarından türemesidir.**

Yukarıda açıklaması verilen Atatürk ilkesi hangisidir?

- A) Laiklik
- B) Halkçılık
- C) İnkılapçılık
- D) Cumhuriyetçilik

20. **"Cumhuriyetçilik" ilkesi aşağıdakilerden öncelikle hangisini ifade eder?**

- A) Milletin bütün bireylerinin kaderde, kıvançta, tasada bölünmez bir bütün hâlinde olmasını
- B) Egemenlik hakkının halka ait olmasını
- C) Toplumda hiçbir kişiye ya da gruba ayrıcalık tanınmamasını
- D) Din ve devlet işlerinin birbirinden ayrılmasını

(461) EKONOMİ – 1

1. **Bir toplumda belirli bir sürede üretilen malların üretime katkıda bulunan etkenlerin sahipleri arasında dağılımını ifade eden klasik sınıflama türü aşağıdakilerden hangisidir?**

- A) Üretim
- B) Değişim
- C) İnkisam
- D) Tüketim

2. **Doğruluğu tartışmasız kabul edilen bazı temel varsayımlardan hareket ederek bunların tek olaylara uygulanmasını isteyen bir ekonomist ekonomi biliminde hangi yöntemin uygulanmasını istemektedir?**

- A) Tümevarım yöntemi
- B) Tümdengelim yöntemi
- C) Karma yöntem
- D) Tartışma yöntemi

3. **Ekonomi biliminin tanımı kapsamında yapılan açıklamalardan hangisi doğrudur?**

- A) İnsanların ihtiyaçları sınırlıdır.
- B) İhtiyaçları karşılayan araçlar (mallar) sınırsızdır.
- C) İhtiyaçlar mallardan çok daha fazladır.
- D) Ekonominin temeli bolluk olayıdır.

4. **Üretime toprağı ile katılan bir insanın, elde edilen gelirden aldığı paya ne denir?**

- A) Ücret
- B) Rant
- C) Faiz
- D) Kâr

2. OTURUM

5. Ekonomide çalışmak isteyen herkese iş alanı sağlanması, var olan kaynakların tam ve etkili şekilde kullanılması, ekonomi politikasının başlıca hedeflerinden hangisini açıklamaktadır?
- A) Tam istihdam
B) Ekonomik denge
C) Hakça gelir dağılımı
D) Ekonomik büyüme ve kalkınma
6. Aşağıdakilerden hangisi bazı ihtiyaçlar arasında ikame olayının gelişmesine bir örnek olarak gösterilemez?
- A) Arpa ve çavdar karışımı ekmeğın, buğday ekmeğının yerini alması
B) Pekmezin, şekerin yerine konması
C) Sentetik kumaşların, yünün ve pamuğın yerini alması
D) Et, sebze ve süt ihtiyaçlarının, şeker ihtiyacının yerine geçmesi
7. Aşağıdakilerden hangisi kültürel mal olarak kabul edilir?
- A) Televizyon B) Otomobil
C) Ekmek D) Konut
8. Malların ihtiyaçları karşılama imkânı aşağıdakilerden hangisinin tanımıdır?
- A) Fayda B) Servet
C) Değer D) Mal
9. Sanayide kumaşın hazır elbise hâline getirilerek faydasının artırılması aşağıda verilen üretim faaliyetlerinden hangisi ile ilgilidir?
- A) Şekil faydası yaratan üretim faaliyetleri
B) Mekân faydası yaratan üretim faaliyetleri
C) Zaman faydası meydana getiren üretim faaliyetleri
D) Mülkiyet faydası meydana getiren üretim faaliyetleri
10. Aşağıda verilenlerden hangisi üretimin başlıca faktörleri arasında yer almaz?
- A) Sermaye B) Girişimci
C) Piyasa D) İş gücü
11. Kanunla oluşturulan tekele ne ad verilir?
- A) Özel tekel B) İdari tekel
C) Yasal tekel D) Fiili tekel
12. Maden rantını ortaya çıkaran asıl etken aşağıdakilerden hangisidir?
- A) Büyüklük B) Kalite
C) Fiyat D) Maliyet
13. Türkiye’de millî gelir hesaplamaları 1927 yılında hangi yöntemle başlamıştır?
- A) Harcama B) Tahmini
C) Üretim D) Gelir
14. Faiz oranlarının yüksek olması durumunda aşağıdakilerden hangisinin görülme olasılığı artar?
- A) Ekonomik gelişmenin hızlanması
B) İş alanlarının artması
C) Yatırımların kısılması
D) İşsizliğin azalması
15. Kişilerin millî gelirin oluşumuna katılmasının karşılığı olarak aldığı ve ekonomik gücünü artırdığı para veya para ile ifade edilebilen değerlere ne denir?
- A) Gelir B) Ücret
C) Rant D) Kâr
16. I- Ücret
II- Rant
III- Faiz
IV- Kâr
- Yukarıdakilerden hangileri millî geliri oluşturan gelirlerdendir?
- A) I ve IV B) II ve III
C) I, II ve IV D) I, II, III ve IV
17. Aşağıdaki tanımlardan hangisi mübadeleyi ifade etmektedir?
- A) Malların insanlar arasında el değiştirmesidir.
B) Mal ve hizmetlerin elde edilmesi faaliyetidir.
C) İhtiyaçların karşılanması için malların tüketilmesidir.
D) Üretim faaliyeti sonucu elde edilen gelirin dağıtımıdır.
18. Hazine bonusu ya da tahvilinin üzerinde yazan faiz oranına ne denir?
- A) Serbest faiz
B) Nominal faiz
C) Yasal faiz
D) Reel faiz
19. Aşağıdakilerden hangisi ödemeler dengesinde yer alan değerlerden biri değildir?
- A) Kamu giderleri
B) İhracat gelirleri
C) Turizm gelirleri
D) İthalat giderleri
20. Aşağıdakilerden hangisi enflasyonun nedenlerinden biridir?
- A) Faiz oranlarının düşmesi
B) Ürün maliyetlerinin azalması
C) Dolaşımdaki para miktarının artması
D) Mal ve hizmet üretiminin artması

(462) EKONOMİ – 2

1. Aşağıdakilerden hangisi gelir çeşitlerinden biridir?

- A) Miras B) Bağış
C) Ücret D) Sadaka

2. Bir ihtiyaca cevap veren malın miktarı ne kadar az olursa, o kadar çok olur.

Bu cümlede boş bırakılan yere aşağıdakilerden hangisi yazılmalıdır?

- A) miktarı B) üretimi
C) faydası D) tüketimi

2. OTURUM

3. Sermaye = (Mevcutlar +)
- (Borçlar)

Yukarıda boş bırakılan yere
aşağıdakilerden hangisi yazıl-
malıdır?

- A) Alacaklar
- B) Öz sermaye
- C) Ham maddeler
- D) Amortisman

4. İnsan ihtiyaçlarını karşılayan
mal ve hizmetleri meydana ge-
tirmek ve malların faydasını ar-
tırmak için yapılan faaliyetlere
ne denir?

- A) Üretim
- B) Tüketim
- C) Fayda
- D) Dağıtım

5. Aşağıdakilerden hangisi tekel
piyasasının özelliklerindedir?

- A) Tek alıcının olması
- B) Çok sayıda alıcının olması
- C) Çok sayıda satıcının olması
- D) Satıcıların rekabet içinde olması

6. Hiçbir ekonomik faaliyette bu-
lunmadan elde edilen mallara
ne denir?

- A) Üretim malı
- B) Tüketim malı
- C) Ekonomik mal
- D) Serbest mal

7. Üretim faktörlerinden toprağın
geliri aşağıdakilerden hangisidir?

- A) Kâr
- B) Faiz
- C) Ücret
- D) Rant

8. Aşağıdakilerden hangisi reel
ücretin tanımıdır?

- A) Alınan ücretin satın alma gücü
- B) Parça başına hesaplanan ücret
- C) Zaman birimine göre hesapla-
nan ücret
- D) İşçinin çalışmasına karşılık al-
dığı para miktarı

9. Tasarruf aşağıdakilerden han-
gisinin oluşumunu sağlar?

- A) Sermayenin
- B) Üretimin
- C) Gelirin
- D) Giderin

10. Aşağıdakilerden hangisi millî
gelirin fonksiyonel dağılımı ara-
sında yer almaz?

- A) Faiz
- B) Ücret
- C) Rant
- D) Servet

11. Malların insanlar arasında el
değiştirmesine ne denir?

- A) Üretim
- B) Mübadele
- C) Tüketim
- D) İnkısam

12. Bir ülkede gelir dağılımının lorenz
eğrileriyle adil ve adil olmayan
dağılım şeklinde belirlenmesi,
gelir dağılımının hangi yönden
incelendiğini göstermektedir?

- A) Meslekler
- B) Sektörler
- C) Sosyal kesimler
- D) Nüfus dilimleri

13. Aşağıdakilerden hangisi millî
gelir hesaplama yöntemlerin-
den biri değildir?

- A) Harcama sistemi
- B) Üretim sistemi
- C) Gelir sistemi
- D) Vergi sistemi

14. Belirli bir yılın fiyatları üzerinden
hesaplanan millî gelire ne denir?

- A) Safi millî gelir
- B) Reel millî gelir
- C) Yurt içi hasıla
- D) Gayrisafi millî hasıla

15. Üretim faaliyeti sonucunda gi-
rişimcinin payı olan gelir aşağı-
dakilerden hangisidir?

- A) Ücret
- B) Faiz
- C) Kâr
- D) Rant

16. Millî gelirin üretim faktörleri-
nin, üretimden aldıkları paylara
göre dağılımına ne denir?

- A) Fonksiyonel dağılım
- B) Sektörel dağılım
- C) Bölgesel dağılım
- D) Kişisel dağılım

17. Fiyatlar genel seviyesinin yük-
selmesine ne denir?

- A) Arz
- B) Deflasyon
- C) Enflasyon
- D) Talep

18. Malların insanlar arasında el
değiştirmesine aracılık eden ve
herkesçe kabul edilen ortak bir
ölçme birimi işlevi gören öde-
me aracına ne denir?

- A) Gümüş
- B) Döviz
- C) Para
- D) Kredi

19. Aşağıdakilerden hangisi eko-
nomi politikasının başlıca he-
deflerindedir?

- A) Dış ödemeler dengesini sağ-
lamak
- B) Tarım sektörünü desteklemek
- C) İhracatı desteklemek
- D) Üretimi yönlendirmek

20. Aşağıdakilerden hangisi çevre
kirliliğine neden olan etkenler-
dendir?

- A) Nüfusun aşırı artması
- B) Altyapı işlerinin yapılması
- C) Yeşil alanların artması
- D) Çevre eğitiminin yaygınlaştırılması

(476) İŞLETME – 1

1. Aşağıdakilerden hangisi lidere
yönelik bir özelliktir?

- A) Koruyucudur.
- B) İş doğru yapar.
- C) Denetime güvenir.
- D) Mevcut durumu sorgular.

2. Yabancı sermayeli kuruluş ola-
rak Bursa ilimizde kurulan ve
sebze çorbaları üreten Nestle
Türkiye Gıda Sanayi A.Ş. adlı
işletme hangi ülkeye aittir?

- A) Japonya
- B) İsviçre
- C) ABD
- D) İngiltere

2. OTURUM

3. Aşağıdakilerden hangisi birincil ihtiyaçlardan değildir?

- A) Uyuma
- B) Yeme - İçme
- C) Giyinme
- D) Kitap okuma

4. Tacir olan bir kişi aşağıdakilerden hangisini yapmalıdır?

- A) Haksız rekabet yapmamalı.
- B) Bir ticaret unvanı kullanmamalı.
- C) Ticari örf ve adetlere uymamalı.
- D) Bir iş adamı gibi hareket etmemeli.

5. Anonim şirketin kuruluşu için en az kaç gerçek ve tüzel kişi gerekir?

- A) 3
- B) 5
- C) 7
- D) 10

6. Aşağıda verilenlerden hangisi işletmenin özel amaçlarından biri değildir?

- A) Kâr elde etmek
- B) Personeline yeterli ücret vermek
- C) Tüketicilere nitelikli mal ve hizmet sunmak
- D) Uzun vadedeki büyümeyi hedeflemek

7. Bir ürününün Avrupa Birliği ülkesine girişi için üzerinde bulunması gereken işaret aşağıdakilerden hangisidir?

- A) CE
- B) TSE
- C) ISO
- D) HACCP

8. İşletmelerin kuruluşu, finansmanı, üretim araçlarının sağlanması, üretilen mal ve hizmetlerin pazarlanması, örgütlenip yönetilmeleri ve parasal olayların izlenmesi konularını ele alıp inceleyen bilim dalı aşağıdakilerden hangisidir?

- A) Hukuk
- B) İstatistik
- C) İşletme
- D) Ekonomi

9. Devlet Malzeme Ofisi aşağıdaki bakanlıklardan hangisine bağlıdır?

- A) Maliye Bakanlığı
- B) Millî Savunma Bakanlığı
- C) Adalet Bakanlığı
- D) Sağlık Bakanlığı

10. Bir işletme için aşağıdakilerden hangisi söylenemez?

- A) Mal ve hizmet üretimi yapar.
- B) Ekonomik ve teknik bir birimdir.
- C) Üretim faktörleri bir arada düşünülemez.
- D) İnsanların ihtiyaç ve istekleri esas alınır.

11. Bankacılık hizmetleri, hangi hizmet işletme türleri arasında yer alır?

- A) Kamu hizmetleri
- B) Finans hizmetleri
- C) Kişisel hizmetler
- D) Danışmanlık hizmetleri

12. Aşağıdakilerden hangisi kamu işletmelerinin kuruluş amaçları arasında yer almaz?

- A) Ülkede istihdamın artırılması
- B) Ekonomik etkinliğin sağlanması
- C) Piyasa başarısızlıklarının önlenmesi
- D) Tekellerin özel sektör eliyle işletilmesi

13. Yabancı sermayeli kuruluş olarak Bursa ilimizde kurulan ve meyve aromalı içecek üreten COCA-COLA İçecek A.Ş. adlı işletme hangi ülkeye aittir?

- A) A.B.D
- B) İsviçre
- C) Japonya
- D) İngiltere

14. Aşağıda yapılan açıklamalardan hangisi, tek kişi işletmelerin sakıncalarından biri olarak değerlendirilemez?

- A) Kredi temin olanaklarının sınırlı olması
- B) İşletmenin büyüme olanaklarının sınırlı olması
- C) İşletme örgütünün esnek bir yapıya sahip olması
- D) İşletme sahibinin tüm mal varlığı ile risk alması

15. Türk Ticaret Kanununa göre düzenlenen ortaklıklarla ilgili yapılan açıklamalardan hangisi yanlıştır?

- A) Tüzel kişilikleri vardır.
- B) Prosedürleri sözleşme ile belirlenir.
- C) İflasa tabi olma özellikleri vardır.
- D) Ticaret siciline kayıt olma zorunluluğu vardır.

16. Kollektif şirketin özelliklerine yönelik yapılan açıklamalardan hangisi doğrudur?

- A) Sözleşmedeki imzalar noterce onaylanmaz.
- B) Ortakların üçüncü şahıslara karşı sorumlulukları yoktur.
- C) Kollektif şirket bir ticaret unvanı kullanamaz.
- D) Tüzel kişiler kollektif şirket kuramaz.

17. Yerel, ulusal, bölgesel ve uluslararası oluşumlarla birlikte çalışarak üyelerine daha etkin bir şekilde hizmet etme ve kooperatifçilik hareketini güçlendirme, aşağıda verilen kooperatifçilik ilkelerinden hangisi ile ilgilidir?

- A) Özerklik ve bağımsızlık
- B) Topluma karşı sorumlu olma
- C) Kooperatifler arasında işbirliği
- D) Eğitim, öğrenim ve bilgilendirme

18. Tüzel kişilerin meslek odalarına kayıt olabilmeleri için aşağıdakilerden hangisi gerekli bir evrak değildir?

- A) Fotoğraf
- B) İlan gazetesi
- C) İmza sirküleri
- D) Ana sözleşme

19. Sigortalıları çalıştıran gerçek veya tüzel kişiler ile tüzel kişiliği olmayan kurum ve kuruluşlar, aşağıdakilerden hangisi ile ifade edilir?

- A) Sigortalı
- B) Alt işveren
- C) İşveren vekili
- D) İşveren

2. OTURUM

20. İnşaat iş yerlerinde işe başlatılan sigortalıların Sosyal Güvenlik Kurumuna bildirim ne kadar süre içerisinde yapılmalıdır?

- A) İşe başlatıldığı gün
- B) 1 ay içinde
- C) 10 gün içinde
- D) İşe başlatılmadan önce

(477) İŞLETME – 2

1. İşletme amaçlarının gerçekleştirilebilmesi için, işletmenin tüm birimlerinin ve çalışanların uyum içinde hareket etmesinin sağlanması, yönetim fonksiyonlarından hangisi ile ilgilidir?

- A) Denetim
- B) Yürütme
- C) Koordinasyon
- D) Organizasyon

2. Neo-Klasik Yönetim Teorisi, aşağıda verilen kavramlardan hangisi üzerinde durmaz?

- A) Tatmin
- B) Motivasyon
- C) Hiyerarşik yapı
- D) Kararlara katılma

3. Aşağıdakilerden hangisi yönetimin özelliklerine uygun bir açıklamadır?

- A) Yönetim tek kişi faaliyetidir.
- B) Yönetim bir yetki faaliyetidir
- C) Yönetim tek yönlü bir faaliyettir.
- D) Yönetilenlerin karar verdiği bir süreçtir.

4. Planlamanın işletmeye sağladığı faydalar düşünüldüğünde, aşağıdakilerden hangisi uygun bir açıklama değildir?

- A) İşletmenin etkin bir denetimden korunmasını sağlar.
- B) İşletme kaynaklarının verimli kullanılmasını sağlar.
- C) Yöneticilere geleceği tahmin etme yeteneği kazandırır.
- D) İşletmenin bölümleri arasındaki koordinasyonu sağlar.

5. Para, fon yada sermaye, aşağıdaki kavramlardan hangisi ile ifade edilir?

- A) Finans
- B) Finansman
- C) Finansal yönetim
- D) Finansman fonksiyonu

6. Bir işletmenin öz kaynaklarına yönelik yapılan açıklamalardan hangisi doğru değildir?

- A) Devamlı bir kaynak niteliği taşır.
- B) Ortaklarca konan fonlar öz kaynaklardır.
- C) Bu kaynaklar, vadeli kaynaklardır.
- D) Maddi olmayan kaynaklar şeklinde de olabilir.

7. Bir tüketicinin çay demlemek üzere çayı marketten satın alması, pazarlamanın faydalarından hangisi ile açıklanabilir?

- A) Yer faydası
- B) Şekil faydası
- C) Zaman faydası
- D) Mülkiyet faydası

8. Reklamın özelliklerine yönelik yapılan açıklamalardan hangisi yanlıştır?

- A) Reklam yapan kişi bellidir.
- B) Reklam kişisel bir sunuştur.
- C) Reklam için bir bedel ödenir.
- D) Reklam bir kitle iletişimdir.

9. Bazı işletmelerin, toptancı yerine acente veya komisyoncu vasıtasıyla perakendecilere, özellikle büyük perakendecilere ulaşmayı tercih etmeleri, hangi dağıtım kanalını kullanacaklarını göstermektedir?

- A) Üretici – Acente – Perakendeci – Tüketici
- B) Üretici – Toptancı – Perakendeci – Tüketici
- C) Üretici – Acente – Toptancı – Tüketici
- D) Üretici – Toptancı – Acente – Tüketici

10. Bir işletme ürünlerini tüketicilere doğrudan dağıtım yoluyla ulaştırıyorsa aşağıdakilerden hangisi oluşmuş olan uygun şartlardan birisidir?

- A) Üretim hızının tüketim hızından fazla olması
- B) Tüketici ya da müşteri sayısının fazla olması
- C) Birim fiyatının yüksek olması
- D) Üretim - tüketim noktaları arası mesafenin uzak olması

11. Aşağıdakilerden hangisi hizmet işletmelerine örnek olmaz?

- A) Hastane
- B) Makarna fabrikası
- C) Ulaşım işletmesi
- D) Otel

12. Aşağıdaki işletme çeşitlerinden hangisi üretim araçlarının mülkiyetine göre işletmeler sınıflandırması içinde yer almaz?

- A) Hizmet işletmeleri
- B) Kamu işletmeleri
- C) Özel işletmeler
- D) Karma işletmeler

13. Aşağıdakilerden hangisi sermaye şirketlerinin şahıs işletmelerine göre olumlu yönlerinden biridir?

- A) Karar almanın kolay olması
- B) Yetkilerin bir kişide toplanması
- C) Kuruluş işlemlerinin uzun zaman alması
- D) Büyüme yeteneğinin sonsuz olması

14. İşletmelerde üretim işlevi ile aşağıdakilerden hangisi yerine getirilir?

- A) Gerekli kredilerin sağlanması
- B) Mal ve hizmetlerin elde edilmesi
- C) Mal ve hizmet tanıtımının yapılması
- D) İşletmede düzenli çalışmanın sağlanması

2. OTURUM

(479) MANTIK – 2

15. İşletmenin hangi işlevinde müşterilerin mal ve hizmet alımlarını sürdürmelerini sağlamak ve yeni müşteriler kazanmak amacı güdülür?

- A) Finansman B) Yönetim
C) Pazarlama D) Üretim

16. Aşağıdaki işletme yöneticilerinden hangisi diğerlerinin en üstünde yer alır?

- A) Genel müdür
B) Servis şefi
C) Şube müdürü
D) Ustabaşı

17. İşletme yönetiminin organizasyon işlevinde son olarak aşağıdakilerden hangisi yapılır?

- A) Yapılacak işlerin belirlenmesi
B) Yetki ve sorumlulukların belirlenmesi
C) İşleri yapacak kişilerin göreve atanması
D) Çalışma yerleri, kullanılacak araç ve yöntemlerin seçilmesi

18. I- Sevk ve idare
II- Organizasyon
III- Planlama
IV- Denetim

İşletme yöneticisi, yukarıda verilen yönetim işlevlerini hangi sırayla yerine getirir?

- A) III - IV - II - I
B) I - II - III - IV
C) III - II - I - IV
D) IV - II - III - I

19. Aşağıdakilerden hangisi işletmelerin çalışanlarına karşı olan sorumluluklarından biridir?

- A) Kaliteli mal ve hizmet üretme
B) İş güvenliğini sağlama
C) Çevreyi kirletmeme
D) Vergi ödeme

20. İşletmelerin yeni yatırımlar yapması aşağıdaki ekonomik sorunlardan hangisine olumlu etki yapar?

- A) Sermaye yetersizliğine
B) Çevre kirliliğine
C) Enflasyona
D) İşsizliğe

1. Aşağıdakilerden hangisi modern mantığın konularından değildir?

- A) Özdeşlik mantığı
B) Kiplik mantığı
C) Klasik mantık
D) Varlık mantığı

2. Herhangi bir önermede yüklem "iki ad"a yüklenirse ikili yüklem adı verilir.

Aşağıdakilerden hangisi ikili yüklemli bir önermedir?

- A) Ali ile Ayşe kardeştir.
B) Farabi düşünürdür.
C) Şermin gazetecidir.
D) 1, tek sayıdır

3. " $(p \vee q) \Rightarrow \neg(P \wedge q)$ " önermesinin ana eklemi hangisidir?

- A) \vee B) \wedge C) $-$ D) \Rightarrow

4. Ali çalışandır (P) önermesi basit, Ali çalışkan değildir ($\neg P$) önermesi bileşik önermedir.

Buna göre bir önermenin bileşik olması aşağıdakilerden hangisine bağlıdır?

- A) Yargı bildirmesine
B) Önermenin olumluluğuna
C) Önerme eklemi almasına
D) Sembol ile gösterilmesine

5. "Yağmur yağar ise ürün bol olur." önermesinin önermeler mantığındaki sembolleştirilmiş biçimi aşağıdakilerden hangisidir?

- A) $p \vee q$ B) $p \wedge q$
C) $p \vee \neg q$ D) $p \Rightarrow q$

6. Bir önerme, bütün yorumlamalarında en az bir doğru değerini almış ise o önerme için aşağıdakilerden hangisi söylenebilir?

- A) Geçerlidir. B) Tutarlıdır.
C) Tutarlıdır. D) Totolojidir.

7. $p \Rightarrow q$

- D
Y
D
D

Yukarıda " $p \Rightarrow q$ " önermesinin doğruluk değeri verilmiştir.

Buna göre " $\neg(p \Rightarrow q)$ " önermesinin doğruluk değeri tablosu aşağıdakilerden hangisidir?

A) $\neg(p \Rightarrow q)$ B) $\neg(p \Rightarrow q)$

- | | |
|---|---|
| Y | D |
| D | Y |
| Y | D |
| Y | D |

C) $\neg(p \Rightarrow q)$ D) $\neg(p \Rightarrow q)$

- | | |
|---|---|
| D | D |
| Y | D |
| Y | Y |
| Y | Y |

8. Aşağıdaki önermelerden hangisi geçerlidir?

A) $p \vee q$ B) $p \wedge q$

- | | |
|---|---|
| D | D |
| Y | D |
| Y | D |
| D | D |

C) $p \Leftrightarrow q$ D) $p \Rightarrow q$

- | | |
|---|---|
| D | D |
| D | Y |
| D | D |
| Y | D |

9.

p	q
D	D
Y	Y
Y	Y
D	D

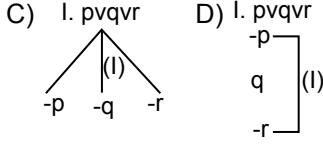
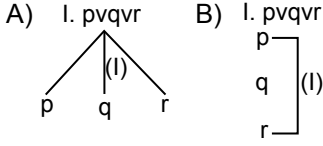
Tabloda verilen p q önermeleri eş değerdir.

Buna göre iki önermenin eş değer olması aşağıdakilerden hangisini gerektirir?

- A) Aynı satırda farklı doğruluk değeri almış olmalarını
B) Tüm yorumlamalarında farklı doğruluk değerini almalarını
C) Aynı satırda aynı doğruluk değeri almış olmalarını
D) Önermelerin aynı satırda birlikte yanlış değeri almamalarını

2. OTURUM

10. “ $p \vee q \vee r$ ” önermesinin çözümleyici çizelgede çözümlemesi aşağıdakilerden hangisinde doğru olarak verilmiştir?



11. “Farabi filozoftur.” önermesinin niceleme mantığındaki sembolik ifadesi hangisidir?

- A) $p \wedge q$ B) Fa
C) $p \vee q$ D) $p \Rightarrow q$

12. \forall sembolüyle gösterilen tümel niceleyicinin anlamı aşağıdakilerden hangisidir?

- A) Bütün B) Bazı
C) Kimi D) Bir kısım

13. Aşağıdakilerden hangisi açık önermeye örnektir?

- A) Aslan hayvandır.
B) Altın madendir.
C) X konuşandır.
D) Ali çalışkandır.

14. Aşağıdakilerden hangisi üç değerli mantığın kabul ettiği doğruluk değerlerinden biri değildir?

- A) Doğru B) Yanlış
C) Eşit D) Belirsiz

15. Kiplik değişmezlerinden “mümkün” eklemesinin sembolü aşağıdakilerden hangisidir?

- A) \square B) \diamond C) \vee D) \wedge

16. “Ağrı dağı vardır.” önermesinin varlık mantığındaki sembolik ifadesi hangisidir?

- A) $\diamond p$ B) $\square q$
C) $-p$ D) $E!a$

17. Aşağıdakilerden hangisi mantık ilkelerinden değildir?

- A) Özdeşlik
B) Çelişmezlik
C) Üçüncü halin imkansızlığı
D) Tüme varım

18. Aksiyomlardan üretilen ve doğruluğu aksiyomlara dayanarak belirlenen önermeler aşağıdakilerden hangisiyle adlandırılır?

- A) Tüme varım B) Tümden gelim
C) Teorem D) Tanım

19. Aşağıdakilerden hangisi mantığın eleştirel düşünme ve akılcı tartışma alanına uygulanmasını ifade eder?

- A) Kiplik mantığı
B) Tartışma mantığı
C) Varlık mantığı
D) Özdeşlik mantığı

20. Aşağıdakilerden hangisi mantık felsefesinin ele aldığı temel sorunlardandır?

- A) Mantık ilkeleriyle ilgili sorunlar
B) Bilginin imkanı problemi
C) Bilimin yöntemi problemi
D) Güzellik problemi

(481) SANAT TARİHİ – 1

1. Sandro Botiçelli'nin yaptığı “Venüs'ün Doğuşu” adlı eserin konusu, aşağıdakilerin hangisinden alınmıştır?

- A) Kutsal kitaplardan
B) Mitolojiden
C) Doğadan
D) Günlük yaşamdan

2. Rönesans Dönemi'nin en önemli eserleri arasında gösterilen “Son Akşam Yemeği” adlı eserin ressamı, aşağıdakilerden hangisidir?

- A) Leonardo da Vinci
B) Albrecht Dürer
C) El Greco
D) Rembrandt

3. • 17. yüzyılda yaşamış ressam ve gravürçüdür.
• Resimlerinde tarihî ve dinî temaları işlemiştir.
• Resimlerinde siyah fon kullanmayı tercih etmiştir.

Özellikleri verilen Hollandalı Barok ressam aşağıdakilerden hangisidir?

- A) Rembrandt
B) Botiçelli
C) Leonardo da Vinci
D) Picasso

4. Aşağıdaki sanat akımları ve doğum yerleri eşleştirmelerinden hangisi yanlıştır?

- A) Maniyerizm - İtalya
B) Gotik Sanatı - Fransa
C) Rönesans - İngiltere
D) Roman Sanatı - Fransa

5. Sigmund Freud'un bilinçaltı ve düşlerle ilgili kuramları hangi sanat akımının ortaya çıkmasında etkili olmuştur?

- A) Kubizm
B) Empresyonizm
C) Sürrealizm
D) Pop Art

6. “- - - mimarisinin en önemli eserleri çok katlı ve kule şeklinde inşa edilen zigguratlardır.”

Verilen bilgi cümlesinin doğru olabilmesi için boş bırakılan yere, aşağıdakilerden hangisi yazılmalıdır?

- A) Dor B) Sümer
C) Roma D) Hitit

2. OTURUM

7. Konya İvriz kaya kabartmaları, günümüze hangi İlk Çağ uygarlığından kalmadır?

- A) Bizans B) Mısır
C) Hitit D) Frig

8. Yılanlar tarafından sarılan Laokoon ve oğullarının mücadelesinin anlatıldığı "Laokoon Heykel Grubu", Yunan heykel sanatının hangi dönemine aittir?

- A) Dor B) Arkaik
C) Klasik D) Helenistik

9. Aşağıdakilerden hangisi üç boyutludur?

- A) Resim B) Fresko
C) Rölyef D) Fotoğraf

10. Aşağıdakilerden hangisi Bizans dini mimarisine ait öğelerden değildir?

- A) Portik B) Narteks
C) Apsis D) Atrium

11. Helenistik dönemde yapılan MÖ 2. yüzyıla tarihlenen "Bergama Zeus Sunağı" hangi müzede sergilenmektedir?

- A) Antalya Müzesi
B) İstanbul Arkeoloji Müzesi
C) Almanya Pergamon Müzesi
D) Ankara Anadolu Medeniyetleri Müzesi

12. Roma İmparatorluğu'nun çeşitli bölgelerinde, Hristiyanların MS ilk üç yüzyıl içinde meydana getirdikleri sanata ne ad verilmiştir?

- A) Erken Hristiyan Sanatı
B) Roma Sanatı
C) Bizans Sanatı
D) Yunan Sanatı

13. Aşağıdakilerden hangisi bir Orta Çağ sanat akımı değildir?

- A) Gotik B) Roman
C) Rönesans D) Barok

14. Aşağıdakilerden hangisi Rönesans dönemi mimarlarından değildir?

- A) Filipo Bürüneleski
B) Leone Batista Alberti
C) Donato Bramante
D) Andrea Palladio

15. Resimde figürle mekânı, ışık ve gölgeyi, perspektifi usta bir gerçeklikle resimlemiş Rönesans dönemi sanatçısı, aşağıdakilerden hangisidir?

- A) Francisco Goya
B) William Turner
C) Masaccio
D) Picasso

16. Yaş ince duvar sıvası üzerine kireç suyunda eritilmiş madeni boyalarla yapılan resme ne ad verilir?

- A) Fresko B) Portre
C) Peyzaj D) Bordür

17. Aşağıdaki mesleklerden hangisinin uğraşı alanını kısaca "yapı tasarlamak" şeklinde tanımlayabiliriz?

- A) Operet B) Balet
C) Mimar D) Heykeltıraş

18. Anadolu'nun en eski köy yerleşim yeri, aşağıdakilerden hangisidir?

- A) Truva B) Çayönü
C) Hacılar D) Kültepe

19. Lise son sınıf öğrencisi Semavi, müze ziyareti sırasında iki taraflı taş baltaların, kemiklerden yapılmış kesici - delici aletlerin, mızrak uçlarının ve okların sergilendiği bir odaya girer.

Sizce Semavi müzede hangi döneme ait eşyaların sergilendiği odaya girmiştir?

- A) Mezolitik B) Neolitik
C) Kalkolitik D) Paleolitik

20. Kazılarda ele geçen "Üçayaklı Tunç Kazanlar", özellikle aşağıdaki İlk Çağ Anadolu uygarlığından hangisine ait madeni ürünlerdendir?

- A) Urartu B) Lidya
C) Hitit D) Frig

(482) SANAT TARİHİ – 2

1. Kervansaraylar, hanlar ve ribatlar hangi tür yapı grubundandır?

- A) Dinî B) Askerî
C) Ticaret D) Eğitim

2. • Çatma
• Seraser
• Kemha
• Diba

Verilen kavramlar aşağıdakilerden hangisiyle ilgilidir?

- A) Osmanlı yemekleriyle
B) Hat yazı çeşitleriyle
C) Çini teknikleriyle
D) Kumaş çeşitleriyle

3. İzmir Menemen'deki "Kubilay Anıtı" aşağıdaki sanatçılardan hangisine aittir?

- A) Hüseyin Anka Özkan
B) Ratip Aşir Acudoğlu
C) Ali Avni Çelebi
D) Ali Hadi Bara

4. Uyumlu ve sevecen kişiliğiyle "şeker" lakabını alan sanatçı aşağıdakilerden hangisidir?

- A) Ahmet Paşa
B) Kenan Yontuç
C) Osman Hamdi Bey
D) Süleyman Seyyid Bey

5. Ressam "Nuri İyem" denilince akla ilk gelen aşağıdakilerden hangisidir?

- A) Portre ressamı
B) Atatürk ile çağdaş oluşu
C) Akademi mezunu oluşu
D) İri gözlü köylü kadın portreleri

2. OTURUM

6. İslam sanatı aşağıdakilerden hangisiyle ortaya çıkmıştır?

- A) Hz. Muhammed'in doğumuyla
- B) Hz. Muhammed'in peygamber olmasıyla
- C) İslam ordularının Mekke'yi fethetmesiyle
- D) Dört Halife Dönemi'nin başlamasıyla

7. İslam sanatının ilk camileri aşağıdaki hangi plan tipinde inşa edilmişlerdir?

- A) Kûfe
- B) Bazilikal
- C) Eyvanlı
- D) Transept

8. Aşağıdaki camilerden hangisi Kanuni Sultan Süleyman Dönemi'nde büyük bir onarım görmüş ve bozulan çinileri İznik çinileri ile değiştirilmiştir?

- A) Kordoba
- B) Seyd-i Ukba
- C) Mescid-i Aksa
- D) Kubbet'üs-Sahra

9. Fatımîlerin cami inşaatında kullandıkları aşağıdaki mimari öğelerden hangisi, onların mimaride Batı'dan etkilendiklerini gösterir?

- A) Abidevi minareler
- B) Son cemaat yeri
- C) Revaklı avlular
- D) Kırık kemerler

10. • Kudüs yakınlarında bulunan saray, 8. yüzyılda Emevi halifelerinden II. Velid Döneminde yapılmıştır.
• Yapı çok sayıda küçük oda ve tören salonundan oluşur.
• Saray, bir yandan Helenistik izler taşıyan kabartmalarla, diğer yandan da Sasani sanatının izlerini taşıyan üçgen ve gül motifleriyle süslüdür.
• Sarayın, 19. yüzyılda ortaya çıkarılan ön cephe kabartmaları Berlin'deki Kaiser Friedrich Müzesindedir.

Bazı özellikleri verilerek tanıtmaya çalışılan saray aşağıdakilerden hangisidir?

- A) Uheydir
- B) Meşatta
- C) Elhamra
- D) Kubadabad

11. • Melikşah Dönemi'nde yapılmış bir medresedir.
• Bugün harabe şeklinde olan medreseden günümüze tonozu yıkılmış bir eyvanla, kare avlunun çevresindeki eyvan duvarlarının bir kısmı ulaşmıştır.
• Sarı renk tuğladan, yüksek kabartma olarak yapılmış çiçekli kûfi kitabesi Tahran Müzesi'nde sergilenmektedir.

Hakkında bilgi verilen medrese aşağıdakilerden hangisidir?

- A) Kırşehir Caca Bey Medresesi
- B) Horasan Hargrid Medresesi
- C) Konya Karatay Medresesi
- D) Rey Medresesi

12. Aşağıdakilerden hangisi Gömeç Hatun Türbesi ile ilgili doğru bir bilgi değildir?

- A) Kayseri'de bulunmaktadır.
- B) 13. yüzyılda inşa edilmiştir.
- C) Türbenin alt katı mummyalıktır.
- D) Yapının üçte biri kesme taştan, sonrası tuğladan örülmüştür.

13. Aşağıdakilerden hangisi Türkiye Selçuklu mimarisindeki ahşap destekli camilerden biri değildir?

- A) Sivrihisar Ulu Camisi
- B) Milas Firuz Bey Camisi
- C) Ankara Aslanhane Camisi
- D) Beyşehir Eşrefoğlu Camisi

14. İstanbul'un fethinden sonra İstanbul'da inşa edilen ilk külliye aşağıdakilerden hangisidir?

- A) İstanbul Mihrimah Hatun Külliyesi
- B) İstanbul Süleymaniye Külliyesi
- C) İstanbul Bayezid Külliyesi
- D) İstanbul Fatih Külliyesi

15. Beyşehir Kubadabat Sarayı'nda yapılan kazılarda ele geçen çiniler ve stukolar aşağıdaki hangi müzede sergilenmektedir?

- A) Konya Çini Eserleri Müzesi
- B) Konya Mevlana Müzesi
- C) İstanbul Vakıflar Halı Müzesi
- D) İstanbul Türk ve İslam Eserleri Müzesi

16. Batı kaynaklarında "Hung-nu" olarak adlandırılan kavim, aşağıdakilerden hangisidir?

- A) Çinliler
- B) Ruslar
- C) Türkler
- D) Hintliler

17. Orta Asya'nın yeryüzü şekilleri, iklimi ve Türklerin yaşayış tarzları, Türk kültüründe aşağıdakilerden en çok hangisinin gelişmesine sebep olmuştur?

- A) Ticaretin
- B) Hayvancılığın
- C) Mimarinin
- D) Tarımın

18. "Yarı göçebe yaşam biçimi, Hunlarda - - I - - sanatının, ölümden sonraki yaşama ait dinsel inanışları da - - II - - gelişmesini sağlamıştır."

Hun sanatı ile ilgili verilen bu bilginin doğru olabilmesi için numaralandırılarak boş bırakılan yerlere aşağıdaki bilgilerden hangileri yazılmalıdır?

I	II
A) Moğol	mimarinin
B) Türk	at koşum takımlarının
C) Esik	dokumacılığın
D) çadır	kurganların

19. Orta Asya'daki toplulukları bir çatı altında toplayan Türk devleti aşağıdakilerden hangisidir?

- A) Göktürk
- B) Avar
- C) Gazne
- D) Uygur

20. Uygur kubbeli mezar anıtlarının en güzel örnekleri aşağıdaki hangi Uygur kentinde yapılan kazılar sonucunda bulunmuştur?

- A) Bezeklik
- B) Ordu-Balık
- C) Hoça
- D) Turfan

2. OTURUM

(503) SEÇ. TARİH – 3

1. I. Mercidabık Savaşı
II. Çaldıran Savaşı
III. Ridaniye Savaşı
IV. Turnadağ Savaşı

Osmanlı hükümdarı Yavuz Sultan Selim, yukarıdaki savaşlardan hangilerini Memluk Devleti ile yapmıştır?

- A) Yalnız I B) I ve III
C) I, II ve III D) I, II, III ve IV

2. Avrupa'da, aşağıdaki gelişmelerden hangisinin sonucunda mezhep birliği bozulmuştur?

- A) Haçlı Seferleri
B) İstanbul'un fethi
C) Reform hareketleri
D) Rönesans hareketleri

3. Sarayda eğitilmiş cariyelerle evlenme geleneğine uymayarak Şeyhülislam Esat Efendi'nin kızıyla evlenen ve böylece sarayı halka açan Osmanlı padişahı, aşağıdakilerden hangisidir?

- A) II. Osman B) IV. Murat
C) I. Mustafa D) IV. Mehmet

4. Aşağıdakilerden hangisi, "Devlet demek ben demektir." sözü ile mutlakiyet uygulamasını doruğa çıkarmıştır?

- A) Bizans İmparatoru II. Manuel
B) Macar Kralı Yanoş
C) Fransa Kralı VIII Şarl
D) Fransa Kralı XIV. Lui

5. • Asıl adı Buhurizade Mustafa Efendi olmakla birlikte şiirlerinde kullandığı mahlası (takma ad) ile ün yapmıştır.
• Türk besteci, şair ve hattat olarak tanınır.
• 1630 veya 1640'lı yıllarda doğmuş, 1711 ya da 1712 yıllarında İstanbul'da ölmüştür.
• Padişah IV. Mehmet Dönemi'nde hanende olarak saray fasıllarına katılmıştır.
• 1000'i aşkın beste yaptığına dair rivayetler olsa da günümüze 42 dolayında yapıtı ulaşmıştır.

Hakkında kısa bilgi verilen ünlü besteci, aşağıdakilerden hangisidir?

- A) Naima B) Nef'i
C) Nabi D) İtri

6. Osmanlı Devleti'nin aşağıdaki görevlilerinden hangisi, esnafı denetleyerek üretimin kurallara uygun bir şekilde yapılmasını sağlamaktan sorumludur?

- A) Muhtesip
B) Bac Emini
C) Kapan emini
D) Tımarlı Sipahi

7. Aşağıdakilerden hangisi, Osmanlı Devleti'nde hizmet karşılığı olarak devlet adamlarına tahsis edilen topraklardan değildir?

- A) Has B) Vakıf
C) Tımar D) Zeamet

8. Osmanlı Devleti'nde uygulanan "Kanunname-i Âli Osman", aşağıdakilerden hangisi ile ilişkilendirilebilir?

- A) Mecelle B) Şer'i Hukuk
C) Örfi Hukuk D) Kur'an-ı Kerim

9. Osmanlı Devleti'nin siyasi tarihinde 1402 - 1413 yılları arasında ne ad verilir?

- A) Lale Devri
B) Fetret Devri
C) Fatih Dönemi
D) Köprülüler Devri

10. "Acemi Ocağı asker ihtiyacını; -- I -- gereğince savaş esirlerinden; daha sonra çıkarılan -- II -- ile de Hristiyan halktan olmak üzere iki yoldan sağlamıştır."

Verilen bilgi cümlesinin doğru olabilmesi için boş bırakılan yerlere, aşağıdakilerden hangisi yazılmalıdır?

- | | I | II |
|----|--------------------|--------------------|
| A) | Ahi
Prencipleri | Devşirme
Kanunu |
| B) | Devşirme
Kanunu | Peçnik
Kanunu |
| C) | Peçnik
Kanunu | Ahi
Prencipleri |
| D) | Peçnik
Kanunu | Devşirme
Kanunu |

11. Osmanlı Devleti Kasrışirin Antlaşması'nı, aşağıdaki devletlerden hangisiyle imzalamıştır?

- A) İran B) Venedik
C) Lehistan D) Avusturya

12. Aşağıdakilerden hangisi Kapıkulu Ocakları'nın yaya birliklerinden değildir?

- A) Topçular B) Cebeciler
C) Sipahiler D) Yeniçeriler

13. "Osmanlılarda gayrimüslimlere ait olan topraklara ---- adı veriliyordu."

Verilen bilgi cümlesinin doğru olabilmesi için boş bırakılan yere, aşağıdakilerden hangisi yazılmalıdır?

- A) Vakıf Topraklar
B) Haracı Topraklar
C) Öşri Topraklar
D) Miri Araziler

14. Avrupa'da sanata ve bilime önem veren, bilgin ve sanatçıları himaye eden "Mesen Sınıfı", aşağıdaki gelişmelerden hangisi sonunda oluşmuştur?

- A) Rönesans hareketleri
B) Reform hareketleri
C) Yüzyıl Savaşları
D) Coğrafi keşifler

2. OTURUM

15. Aşağıdakilerden hangisi İngiliz hümanistidir?

- A) Şekspere B) Erasmus
C) Monteyn D) Servantes

16. Aşağıdaki devletlerden hangisi, XIV. yüzyıl başında Anadolu'daki mevcut siyasi yapı içinde yer almaz?

- A) Türkiye Selçuklu Devleti
B) Trabzon İmparatorluğu
C) Bizans İmparatorluğu
D) İznik İmparatorluğu

17. I. İlk Osmanlı - Bizans savaşıdır.
II. İlk Osmanlı - Haçlı savaşıdır.
III. İlk Osmanlı - İran Antlaşması'dır.

Özellikleri belirtilen olaylar, aşağıdakilerin hangisinde sırasıyla bir arada verilmiştir?

- | | I | II | III |
|----|-------------|-------------|------------|
| A) | Koyunhisar | Sırpsındığı | Amasya |
| B) | Sırpsındığı | Koyunhisar | Amasya |
| C) | Varna | I. Kosova | Serav |
| D) | I. Kosova | II. Kosova | Kasırsirin |

18. Aşağıdaki Anadolu beyliklerinden hangisinin Osmanlı Devleti tarafından ele geçirilmesiyle Osmanlılarda, denizcilik faaliyetlerinin başladığı kabul edilir?

- A) Germiyanogulları
B) Karesioğulları
C) Hamitoğulları
D) Aydınoğulları

19. Osmanlı tarihinde kaç tane "Kosova" savaşı vardır?

- A) 1 B) 2 C) 3 D) 4

20. I. Bizans'ın Osmanlı şehzadelerini kışkırtması
II. Bizans'ın Haçlı seferlerine zemin hazırlaması
III. Hz. Muhammed'in İstanbul'un fethini öven hadisinin olması
IV. Bölge ticaret yollarının ve ticari gelirlerin ele geçirilmek istenmesi

İstanbul'un fethinin yukarıdaki nedenlerinin "dinî", "siyasi", ve "ekonomik" olarak sınıflandırılması, aşağıdakilerden hangisinde doğru yapılmıştır?

- | | I | II | III | IV |
|----|----------|--------|----------|----------|
| A) | Ekonomik | Siyasi | Dinî | Siyasi |
| B) | Siyasi | Siyasi | Ekonomik | Dinî |
| C) | Dinî | Siyasi | Dinî | Ekonomik |
| D) | Siyasi | Siyasi | Dinî | Ekonomik |

(504) SEÇ. TARİH - 4

1. Osmanlı ülkesindeki Robert Koleji, aşağıdaki hangi devlet tarafından açılmış bir eğitim kurumudur?

- A) Amerika Birleşik Devletleri
B) İngiltere
C) Fransa
D) İran

2. Beşiktaş, Fenerbahçe ve Galatasaray spor kulüpleri, hangi yüzyılın başında kurulmuştur?

- A) XVII. yy B) XVIII. yy
C) XIX. yy D) XX. yy

3. Osmanlı Devleti, Trablusgarp ve Bingazi şehirlerini Uşi Antlaşması'yla, aşağıdaki devletlerden hangisine bırakmak zorunda kalmıştır?

- A) İtalya B) Fransa
C) Rusya D) İngiltere

4. I. Dünya Savaşı sonunda İttifak Devletleri ile İttifak Devletleri arasında imzalanan ilk antlaşma, aşağıdakilerden hangisidir?

- A) Serv Antlaşması
B) Versay Antlaşması
C) Triyanon Antlaşması
D) Sen Jermen Antlaşması

5. Osmanlı Devleti'nin I. Dünya Savaşı'na girmesi, savaşın seyri üzerinde nasıl bir etkisi olmuştur?

- A) Savaş kısa sürede bitmiştir.
B) İttifak Devletleri güç kaybetmiştir.
C) Savaş, daha geniş coğrafyaya yayılmıştır.
D) Amerika Birleşik Devletleri'nin savaşa girmesine neden olmuştur.

6. Aşağıdakilerden hangisi, Sanayi İnkılabı'yla ortaya çıkan gelişmelerden biri değildir?

- A) Üretimin artması
B) Sömürgecilik yarışının hızlanması
C) Pazar ve ham madde ihtiyacının artması
D) Milliyetçi ayaklanmaların artması

7. Divan kâtiplerinin şefi olan Reisülküttap, XVII. yüzyıldan sonra diplomasinin gelişmesiyle dış ilişkilerden sorumlu olmadan önce, aşağıdaki divan üyelerinden hangisine bağlı olarak çalışmıştır?

- A) Şeyhülislam B) Nişancı
C) Defterdar D) Kaptanıderya

8. Fransa'nın ara buluculuğunda, Osmanlı Devleti'nin 1739 yılında Avusturya ve Rusya ile ayrı ayrı imzaladığı antlaşma, aşağıdaki devletlerden hangisidir?

- A) Pasarofça B) Zitvatorok
C) Belgrad D) Uşi

2. OTURUM

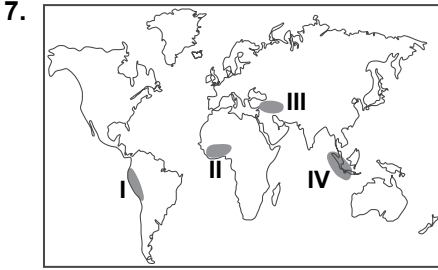
(505) SEÇ. COĞRAFYA – 3

9. Aşağıdakilerden hangisi, III. Selim Dönemi'nde kurulan Nizam-ı Cedid Ordusu'nun giderlerini karşılamak için oluşturulan hazinedir?
- A) İrad-ı Cedid
B) Hazine-i Amire
C) Sikke-i Hasene
D) Hazine-i Hassa
10. Viyana Kongresi'nde ilk defa kullanan "Şark Meselesi" deyimini, aşağıdakilerden hangisiyle ilgilidir?
- A) Mısır Sorunu
B) Doğu Sorunu
C) Celali İsyanları
D) Kapitülasyonlar
11. Aşağıdakilerden hangisi XIX. yüzyılda yönetim alanında yapılan ıslahatlardan biri değildir?
- A) Divan teşkilatının kaldırılarak kabine sistemine geçilmesi
B) Köy ve mahallelere muhtar tayin edilmesi
C) İlköğretimin zorunlu hâle getirilmesi
D) Nazırlıkların kurulması
12. "Sekbanıcedit" adlı ordu, hangi Osmanlı padişahı zamanında kurulmuştur?
- A) II. Mahmut B) Abdülaziz
C) Abdülmecit D) II. Abdülhamit
13. Osmanlı tarihinde "93 Harbi" olarak bilinen savaş, aşağıdakilerden hangisidir?
- A) 1768 - 1774 Osmanlı - Rus Savaşı
B) 1877 - 1878 Osmanlı - Rus Savaşı
C) 1853 - 1856 Kırım Savaşı
D) 1914 - 1918 I. Dünya Savaşı
14. Rusya, Osmanlı yönetiminde bulunan Ortodoksların haklarını koruyabilme hakkını, aşağıdaki antlaşmalardan hangisiyle elde etmiştir?
- A) Karlofça
B) Pasarofça
C) Hünkâr İskelesi
D) Küçük Kaynarca
15. Aşağıdaki Osmanlı camilerinden hangisi ampir üslubunda yapılmamıştır?
- A) Ortaköy Camisi
B) Nusretiye Camisi
C) Süleymaniye Camisi
D) Dolmabahçe Camisi
16. Avrupa'da, hangi yüzyılda krallıklar arasında "Veraset Savaşları" yaşanmıştır?
- A) XVIII. yüzyılda
B) XVII. yüzyılda
C) XVI. yüzyılda
D) XV. yüzyılda
17. Aşağıdakilerden hangisi, III. Ahmet Dönemi'nde yapılan yeniliklerden biri değildir?
- A) İtfaiye Ocağının kurulması
B) İlk kâğıt fabrikasının açılması
C) İlk kez çiçek aşısının uygulanması
D) Askerî amaçlı ilk nüfus sayımının yapılması
18. "Akıl Çağı" adı verilen yüzyıl, aşağıdakilerden hangisidir?
- A) XVI. yüzyıl
B) XVII. yüzyıl
C) XVIII. yüzyıl
D) XIX. yüzyıl
19. "Amerika Birleşik Devletleri'nin 1783'te kurulmasını sağlayan antlaşma ile 1919'da Almanya'nın İtilaf Devletleri'yle imzaladığı antlaşma aynı adı taşır. Bu antlaşma - - - - Antlaşması'dır."
- Verilen bilgi cümlesinin doğru olabilmesi için boş bırakılan yere, aşağıdakilerden hangisi yazılmalıdır?
- A) Paris B) Sen Jermen
C) Versay D) Triyanon
20. İzmir'in Çeşme Limanı'na baskın yaparak Osmanlı donanmasını yakan devlet, aşağıdakilerden hangisidir?
- A) Rusya B) Fransa
C) Lehistan D) Yunanistan
1. Dünyadaki en büyük su kütlesi aşağıdakilerden hangisidir?
- A) Okyanuslar B) Buzullar
C) Göller D) Denizler
2. Dünya'nın nüfus özellikleri ile ilgili aşağıda verilenlerden hangisi yanlıştır?
- A) Üzerinde devamlı yerleşme olan kıtalar içerisinde en az nüfus Okyanusya'dadır.
B) Kuzey Yarım Küre'de nüfus miktarı Güney Yarım Küre'den fazladır.
C) Nüfusun büyük çoğunluğu denize uzak iç kesimlerde yaşamaktadır.
D) Dünya nüfusunun yarısından fazlası Asya Kitası'nda yaşamaktadır.
3. Aşağıdaki olaylardan hangisi daha önce gerçekleşmiştir?
- A) Yerleşik hayata geçilmesi
B) Hayvanların evcilleştirilmesi
C) İlk devletlerin ortaya çıkması
D) Avcılık ve toplayıcılığın başlaması
4. Magmanın - - - - soğuyup katılaşmasıyla oluşan kayaçlara iç püskürük kayaçlar denir.
- Cümlede boş bırakılan alana aşağıdakilerden hangisinin gelmesi uygun olur?
- A) yeryüzünde
B) atmosferde
C) iç çekirdekte
D) yerin derinliklerinde
5. • Yaygın görülen kimyasal tortul kayaçtır.
• Bulunduğu arazilerde mağara, sarkıt, dikit gibi yer şekilleri oluşur.
- Bazı özellikleri verilen kayaç aşağıdakilerden hangisidir?
- A) Gabro B) Kalker
C) Kömür D) Konglomera

2. OTURUM

6. İki kıtasal levhanın birbirine yaklaştığı yerlerde aşağıdaki-lerden hangisi görülmez?

- A) Volkanik faaliyetler
- B) Litosferin kalınlaşması
- C) Sıra dağların oluşması
- D) Deprem ihtimalinin artması



7. Deprem kuşaklarının dağılışı dikkate alındığında haritada numaralandırılarak verilen yerlerden hangisinde deprem ihtimali daha azdır?

- A) I B) II C) III D) IV

8. Dünya nüfusu yeryüzüne eşit oranda dağılmamıştır. Kıtalara göre farklılık göstermiştir.

Bu farklılık üzerinde aşağıdaki-lerden hangisinin etkisi diğerle-rine göre daha azdır?

- A) İklim
- B) Yer şekilleri
- C) Bitki çeşitliliği
- D) Sanayi faaliyetleri

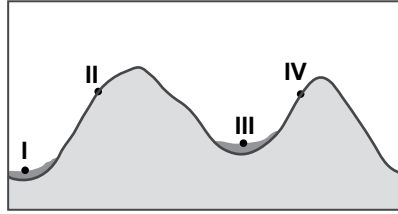
9. Aşağıdaki kaynak türlerinden hangisinde sular insanlar tarafından yapılan sondajla çıkarılmaktadır?

- A) Fay kaynağı
- B) Karstik kaynak
- C) Gayzer kaynağı
- D) Artezyen kaynağı

10. Buzulların taşıyıp biriktirdiği malzemelerden oluşan topraklara ne denir?

- A) Moren
- B) Terra-rossa
- C) Çernezyom
- D) Podzol toprakları

11.



Şekilde I ve III numaralı yerlerdeki toprak örtüsünün II ve IV numaralı yerlerdeki toprak örtüsünden daha kalın olmasını aşağıdakilerden hangisi en fazla etkilemiştir?

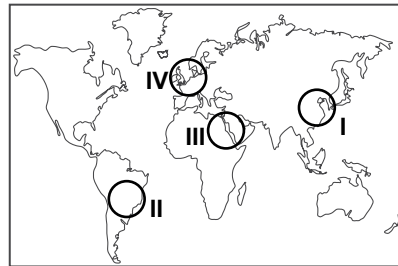
- A) Zaman
- B) Canlılar
- C) Eğim
- D) Ana kaya

12. • Görüldüğü yerler her mevsim yağışlı olup yıllık yağış miktarı 2000 mm'yi aşar.
• Yıl boyunca yeşil kalan çok zengin bitki türlerinden oluşur.
• Amazon ve Kongo havzaları ile Endonezya adalarında görülür.

Yukarıda bazı özellikleri verilen bitki örtüsü aşağıdakilerden hangisidir?

- A) Tayga ormanları
- B) Muson ormanları
- C) Ekvatorial yağmur ormanları
- D) Orta kuşağın karışık ormanları

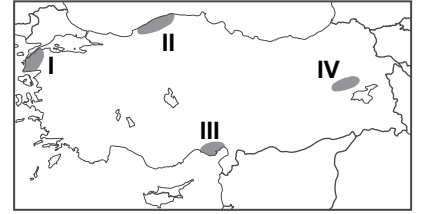
13. Sanayi Devrimi dünyadaki nüfus artış hızında sıçramaya neden olan üç olaydan en önemlisidir.



Buna göre, Sanayi Devrimi'nin nüfus artışına etkisi ilk önce haritada taralı alanlardan hangisinde görülmüştür?

- A) I B) II C) III D) IV

14.



Haritada verilen yerlerden hangisinde yıllık yağış miktarı daha fazladır?

- A) I B) II C) III D) IV

15. Orta Doğu ve Afrika ülkelerinde nüfus artış hızının yüksek olmasının temel nedeni aşağıdakilerden hangisidir?

- A) Doğum oranlarının yüksek olması
- B) Kişi başına düşen milli gelirin az olması
- C) Sağlık hizmetlerinin yetersiz olması
- D) Başka bölgelerden göç alması

16. Türkiye'deki yer şekillerinin genel özellikleri arasında aşağıdakilerden hangisi gösterilemez?

- A) Ortalama yükseltisi 1000 m'nin üzerindedir.
- B) Çoğunlukla tersiyerdeki alp kıvrımları sonucunda oluşmuştur.
- C) Dağlar genellikle kuzey-güney doğrultulu uzanmaktadır.
- D) Kıyı bölgelerde dağlar genellikle kıyıya paralel uzanmaktadır.

17. Gelişmiş ülkelerde nüfus artış hızının düşük olmasının nedenleri arasında aşağıdakilerden hangisi gösterilemez?

- A) Eğitim seviyesinin yüksek olması
- B) Tarımsal verimliliğin yüksek olması
- C) Kadınların çalışma hayatına girmesi
- D) Şehirleşme oranlarının yüksek olması

2. OTURUM

(506) SEÇ. COĞRAFYA – 4

18. Aşağıdakilerden hangisi beyin göçüne örnek gösterilebilir?

- A) Türklerin Orta Asya'dan kuraklık nedeniyle yaptığı göçler
- B) Lozan Barış Antlaşması'yla Türkler ile Rumların karşılıklı yer değiştirmeleri
- C) Amerika'nın keşfiyle Avrupa'dan bu kıtaya yapılan göçler
- D) Hindistan'daki bilgisayar mühendislerinin çalışmaya ABD'ye gitmesi

19. İnsanlar nüfus artışının neden olduğu olumsuzlukları en aza indirebilmek için birtakım çözüm önerileri geliştirmişlerdir.

Buna göre, aşağıdaki nüfus artışının neden olduğu olumsuz durum ve çözüm yolları eşleştirmelerinden hangisi yanlıştır?

- A) Tüketimin artması – Tasarruf ve verimliliğe önem verilmesi
- B) Göçlerin artması – Göç alan yerlerde yatırımların durdurulması
- C) İşsizliğin artması – Sanayi yatırımlarının ve girişimciliğin desteklenmesi
- D) Eğitim ve sağlık hizmetlerinin aksaması – Okul ve hastane yapımına ağırlık verilmesi

20. Fiziksel ayrışmanın gücü soğuk ve kurak iklim bölgelerinde daha fazla olmaktadır.

Bölgeler	Yıllık Yağış Miktarı (mm)	Yıllık Sıcaklık Ortalaması (°C)
I	600	10
II	1000	15
III	1800	20
IV	950	14

Buna göre tabloda yıllık yağış ve sıcaklık ortalamaları verilen bölgelerden hangisinde fiziksel ayrışmanın gücü daha fazladır?

- A) I B) II C) III D) IV

1. Aşağıdaki akarsulardan hangisi kaynağını dışarıdan alarak ülkemiz sınırlarından denize dökülür?

- A) Asi B) Çoruh
- C) Kızılırmak D) Sakarya

2. Güneydoğu Anadolu Projesi aşağıdakilerin hangisinde artışa neden olmamıştır?

- A) Mera alanlarının
- B) Enerji üretiminin
- C) Tarımsal üretimin
- D) Su ürünleri üretiminin

3. Aşağıdakilerden hangisi Büyük Okyanus ile Atlas Okyanusu arasındaki ulaşımı kolaylaştırmıştır?

- A) Cebelitarık Boğazı
- B) Süveyş Kanalı
- C) Panama Kanalı
- D) Korint Kanalı



Haritada gösterilen su yolu aşağıdakilerden hangisidir?

- A) Korint Kanalı
- B) Süveyş Kanalı
- C) Hürmüz Boğazı
- D) Cebelitarık Boğazı

5. - Mineral madde yönünden zengindir.
- Akarsuların taşıyıp biriktirdiği malzemelerden oluşmuştur.

Yukarıda özellikleri verilen toprak türü aşağıdakilerden hangisinde verilmiştir?

- A) Çermezyom B) Kolüvyal
- C) Alüvyal D) Terra-Rossa

6. Geven, üzerlik, yavşan otu, sığır kuyruğu gibi türlerin yaygın olduğu bir yerdeki bitki topluluğunun adı nedir?

- A) Orman B) Çayır
- C) Maki D) Bozkır

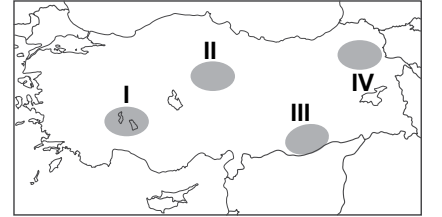
7. Aşağıdaki bitki türlerinden hangisi maki topluluğu içerisinde yer almaz?

- A) Mersin B) Defne
- C) Gelincik D) Sandal

8. Aşağıdakilerden hangisi sanayi şehri olarak nitelendirilemez?

- A) Bursa B) Bitlis
- C) Kocaeli D) Adana

9.



Göller yöresi kaç numaralı taraflı alanda yer alır?

- A) I B) II C) III D) IV

10. Aşağıdakilerden hangisi göç veren iller arasında yer almaz?

- A) Ağrı B) Sivas
- C) Sinop D) Bursa

11. Aşağıdaki şehir - fonksiyon eşleştirmelerinden hangisi yanlıştır?

- A) Konya – Tarım fonksiyonlu
- B) Mersin – Liman fonksiyonlu
- C) Bodrum – Turizm fonksiyonlu
- D) Kastamonu – Sanayi fonksiyonlu

2. OTURUM

12. Türkiye'nin nüfus özellikleri ile ilgili aşağıdakilerden hangisi söylenemez?

- A) Erkeklerin iş gücüne katılma oranı daha fazladır.
- B) Okuryazar oranı yıldan yıla azalmaktadır.
- C) Kentsel nüfus kırsal nüfustan fazladır.
- D) Çalışan nüfusun yarısından fazlası sanayi ve hizmet sektörlerinde istihdam edilmektedir.

13. Aşağıdakilerden hangisi göç veren yerlerdeki itici faktörlerden değildir?

- A) Çevre sorunlarının azlığı
- B) Sağlık hizmetlerinin yetersizliği
- C) Kan davaları ve terör olayları
- D) Geçim kaynaklarının yetersizliği

14. İyi eğitim görmüş nitelikli ve alanında yetişmiş bireylerin başka ülkeye göç edip yerleşmesi hangi göç türüne girer?

- A) İşçi göçleri
- B) Beyin göçü
- C) Mevsimlik göç
- D) Mübadele göçleri

15. I. Pusulanın icadı
II. Süveyş kanalının açılması
III. Sanayi devriminin başlaması
IV. Gemicilik tekniklerinin gelişmesi
Coğrafik keşiflerin başlamasında yukarıdakilerden hangileri etkili olmuştur?

- A) I ve II
- B) II ve III
- C) I ve IV
- D) III ve IV

16. Aşağıdakilerden hangisi hammaddesi toprak olan sanayi ürünlerine örnek gösterilemez?

- A) Tuğla
- B) Seramik
- C) Çimento
- D) Plastik

17. Marmara Denizi ile ilgili aşağıda verilenlerden hangisi yanlıştır?

- A) Kıyı uzunluğu en fazla olan denizdir.
- B) Tamamı Türkiye sınırları içerisinde yer alır.
- C) Yüz ölçümü en küçük olan denizimizdir.
- D) Karadeniz ile Ege Denizi arasındaki ulaşım bu deniz üzerinden sağlanır.

18. Aşağıdakilerden hangisi deprem sonrası yapılacak faaliyetlerdir?

- A) Deprem çantasının oluşturulması
- B) Elektrik sigortası, gaz ve su vanalarının kapatılması
- C) Halkın deprem konusunda bilinçlendirilmesi
- D) Yapıların depreme dayanıklı inşa edilmesi

19. - Ani ve şiddetli yağışlar
- Hızlı kar erimeleri
- Bitki örtüsünün tahrip edilmesi

Verilenler aşağıdaki doğal afetlerden hangisinin oluşum nedenidir?

- A) Fırtına
- B) Tsunami
- C) Kütle hareketleri
- D) Sel ve taşkınlar

20. I. Erozyon
II. Deprem
III. Volkan patlaması
IV. Sel ve taşkınlar

Yukarıdaki doğal afetlerden hangilerinin oluşumunda insanların hiçbir etkisi yoktur?

- A) I ve II
- B) I ve IV
- C) II ve III
- D) III ve IV

(511) FIKIH – 1

1.

Namazlar	Hükümler
• Beş vakit namaz • Teravih namazı • Cenaze namazı	• Vacip • Sünnet • Farz-ı Ayn • Farz-ı Kifaye

Tablodaki namazlar ile hükümler eşleştirildiğinde hangi hüküm dışarıda kalır?

- A) Vacip
- B) Sünnet
- C) Farz-ı Ayn
- D) Farz-ı Kifaye

2. "Müçtehit, içtihat ederek bir hüküm verdiğinde verdiği hüküm doğru ise iki sevap alır, hatalı ise bir sevap alır."

Bu hadis ile aşağıdakilerden hangisi teşvik edilmemiştir?

- A) Araştırma
- B) İnceleme
- C) Taassup
- D) İstişare

3. "Dince yapılmasında sakınca bulunmayan, yapılması günah ya da sevap olmayan" davranışlar için aşağıdaki kavramlardan hangisi kullanılamaz?

- A) Mübah
- B) Müstehap
- C) Caiz
- D) Helal

4. Hz. Peygamber Yemen'e İslam'ı öğretmesi için gönderdiği Muaz b. Cebel'e: "Gittiğin yerde ne ile hükmedeceksin?" diye sormuş, o da: "Önce Allah'ın kitabı, sonra Hz. Peygamber'in sünneti ile" cevabını vermiş ve bu ikisinde de çözümünü bulamadığı konuları, kendi reyini ile hüküm vererek çözeceğini söylemiştir.

Metinden aşağıdaki yargılardan hangisi çıkarılamaz?

- A) İslam'ın öğretilmesinde sahabenin de görev aldığı
- B) Hüküm vermede öncelikli kaynağın Kur'an olduğu
- C) Rey ve içtihadın hüküm vermede kullanılabileceği
- D) Muaz b. Cebel'in rey ve içtihad konusunda uzman olduğu

2. OTURUM

5. Ev sahibi-kiracı arasındaki ilişki fıkıh ilminin konularından hangisinin alanına girer?

- A) Münakehat B) Muamelat
C) Ukubat D) Feraiz

6. Aşağıdaki fakihlerden hangisi Hicaz ekolündendir?

- A) Alkame b. Kays
B) İbrahim en-Nehai
C) Ahmet Bin Hanbel
D) Hammad b. Ebi Süleyman

7. "O, fıkhi hükümler çıkarmada kitap, sünnet, icma ve kıyas delillerine başvurmuştur. Ayrıca Medine halkının uygulamasını ve Mesalih-i mürseleyi dikkate alması onun fıkının karakteristik özelliklerini oluşturur."

Yukarda bahsedilen mezhep imamı kimdir?

- A) İmam Ahmed b. Hanbel
B) İmam Malik b. Enes
C) İmam-ı Azam Ebu Hanife
D) İmam Muhammed b. İdris Eş-Şafî

8. Hanefilere göre sünnet, ravilerin sayısı bakımından üçe ayrılır.

Aşağıdakilerden hangisi bu tasnifin dışında kalır?

- A) Mükked sünnet
B) Mütevatir sünnet
C) Meşhur sünnet
D) Ahad sünnet

9. Kişinin bir takım haklara sahip olmaya elverişli bulunmasına ve sorumlulukları yerine getirebilme yeteneğine fıkıhta ne ad verilir?

- A) Edille-i Şeriyye
B) Efal-i Mükellefîn
C) İkraha
D) Ehliyet

10. Bir mazaretten dolayı geçici ve özel olmak üzere konulmuş hükümlere ne ad verilir?

- A) Mübah B) Mekruh
C) Ruhsat D) Azimet

11. Aşağıdakilerden hangisi mükellefiyetin şartlarından biri değildir?

- A) Akıllı olmak
B) Erkek olmak
C) Müslüman olmak
D) Ergenlik çağına girmiş olmak

12. Kişi tam vücup ehliyetine ne zaman sahip olur?

- A) Doğumu ile
B) Cenin haline gelmesi ile
C) Ergenliğe ulaşması ile
D) Müslüman olması ile

13. Aşağıdakilerden hangisi sema-vi arzılardandır?

- A) Savurganlık B) Sarhoşluk
C) Unutkanlık D) Cehalet

14. "Daha sonra gelen hükmün önceki hükmü kaldırması" olarak tanımlanan kavram aşağıdaki-lerden hangisidir?

- A) Nesih B) İstislah
C) Avarız D) İskât

15. Yapılması dinen hoş karşılanmayan, kesin ve açık delillerle yasaklanmayan fiillere ne denir?

- A) Haram B) Mekruh
C) Farz D) Müfsit

16. Aşağıdakilerden hangisi fıkhi hükümlerin asli kaynaklarından biridir?

- A) Sedd-i Zerai B) İstihsan
C) İstishab D) İcma

17. Dini anlamak ve onu günlük hayata uygulayabilmek için Kitap ve sünnetten Allah'ın rızasına uygun olarak hükümler çıkartmaya ne denir?

- A) Sedd-i Zerai B) Ehliyet
C) İstişare D) İctihat

18. "Gücünüzün yeteceği işleri yapınız, vallahi siz yorulmadıkça Allah yorulmaz."

Bu hadis fıkının temel ilkelerinden hangisine vurgu yapmak-tadır?

- A) Adaletin gözetilmesi
B) Hükümlerde tedricilik
C) Mükellefiyette kolaylık
D) Kamu yararının gözetilmesi

19. Aşağıdaki eserlerden hangisi İmam Şafii'ye aittir?

- A) El-Muvatta B) El-Müsned
C) El-Mu'cem D) El-Umm

20. Hz. Peygamber'in "Müellefe-i Kulüb" a zekattan tahsis ettiği pay aşağıdaki halifelerden hangisi tarafından kaldırılmıştır?

- A) Hz. Ebu Bekir
B) Hz. Osman
C) Hz. Ömer
D) Hz. Ali

(512) FIKIH – 2

1. Aşağıdakilerden hangisi oruç ibadetinde öne çıkan tutum ve davranıştır?

- A) Hoşgörü B) Alçakgönüllülük
C) Sabır D) Güvenilirlik

2. I. Ziyaret tavafi
II. Kudüm tavafi
III. Veda tavafi

Verilen tavaf çeşitlerinden hangisini/hangilerini hacda yapmak farzdır?

- A) Sadece I B) Sadece II
C) II ve III D) I ve III

2. OTURUM

3. Tilavet secdesi hakkında aşağıda verilen bilgilerden hangisi yanlıştır?

- A) Kur'an'da on dört yerde secde ayeti vardır.
- B) Tilavet secdesini yapmak farzdır.
- C) Tilavet secdesinde secde bir kez yapılır.
- D) Secde ayeti okunduğunda veya duyulduğunda en kısa zamanda tilavet secdesi yapılmalıdır.

4. Yolculuk sırasında mest üzerine mesh etmenin süresi kaç gündür?

- A) 1 gün
- B) 3 gün
- C) 5 gün
- D) 7 gün

5. I. Setr-i Avret
II. Kıyam
III. Vakit
IV. Ka'de-i âhire

Yukarıdakilerden hangisi/hangileri namazın içindeki farzlarıdır?

- A) Yalnız I
- B) Yalnız II
- C) I ve III
- D) II ve IV

6. Aşağıdakilerden hangisi namazın vaciplerinden değildir?

- A) Kıyamda elleri bağlamak
- B) Ta'dil-i erkân'a dikkat etmek
- C) Fatiha suresini okumak
- D) Üç ve dört rekâtlı namazlarda ikinci rekâtın sonunda oturmak

7. Yatsı namazının farzının 3. rekâtında ayakta iken aşağıdakilerden hangisi okunur?

- A) Sübhaneke - Fatiha - zammı sure
- B) Fatiha - zammı sure
- C) Sübhaneke - Fatiha
- D) Fatiha

8. Oruç ibadeti Kur'an'da hangi kavram ile ifade edilmiştir?

- A) Salât
- B) Savm
- C) Fıtr
- D) Udhiye

9. Gusül abdesti alması gereken bir kimseye aşağıdakilerden hangisi yasak değildir?

- A) Cami ve mescitlere girmek
- B) Kur'an'ı ele almak
- C) Dua okumak
- D) Kâbe'yi tavaf etmek

10. Orucun başlama zamanı (imsak) aşağıdakilerden hangisidir?

- A) Tan yerinin ağarmasından otuz dakika sonra
- B) Güneşin doğmasından otuz dakika önce
- C) Güneşin doğması ile
- D) Tan yerinin ağarması ile

11. "İnsan ölünce üç ameli dışında bütün amellerinin sevabı kesilir; kesintisiz iyilik, kendisinden faydalanılan ilim ve arkasından dua eden hayırlı evlat."

Bu hadis aşağıdaki kavramlardan hangisi ile ilişkilendirilebilir?

- A) Zekât
- B) İtikâf
- C) Sadaka-i Fıtr
- D) Sadaka-i Cariye

12. Toprak ürünlerinden alınan zekât miktarı aşağıdakilerden hangisinde doğru verilmiştir?

- A) 1/10
- B) 1/20
- C) 1/30
- D) 1/40

13. Aşağıdakilerden hangisi ihram yasakları arasında yer almaz?

- A) Güzel koku sürmek
- B) Tırnakları kesmek
- C) Bitkileri koparmak
- D) Banyo yapmak

14. "Allah emanetleri ehline vermenizi, insanlar arasında hükmettiğiniz zaman adaletle hükmetmenizi emreder..." (Nisâ suresi, 58. ayet)

Aşağıdakilerden hangisi bu ayette vurgulanan konulardan biridir?

- A) İbadet
- B) Liyakat
- C) Tevekkül
- D) Mülkiyet

15. Aşağıdakilerden hangisi abdestin adaplarından?

- A) Kibleye dönmek
- B) Başını mesh etmek
- C) Niyet etmek
- D) Yüzü yıkamak

16. Kâbe'ye ve Harem bölgesine hediye olarak kesilen kurban çeşidi aşağıdakilerden hangisidir?

- A) Adak
- B) Akika
- C) Hedy
- D) Şükür

17. Aşağıdakilerden hangisi umrenin şartlarından biri değildir?

- A) İhram
- B) Tavaf
- C) Vakfe
- D) Sa'y

18. Cemaatle kılınması zorunlu olan namaz aşağıdakilerden hangisidir?

- A) Vitr namazı
- B) Cuma namazı
- C) Teravih namazı
- D) Beş vakit namaz

19. "Sen öğüt ver. Çünkü sen sadece bir uyarıcısın. Onlara zor kullanacak değilsin."
(Ğâşiye suresi, 21-22. Ayetler)

Bu ayetler temel hak ve hürriyetlerden hangisine yöneliktir?

- A) Yaşama hakkı
- B) Mülkiyet hakkı
- C) Neslin korunması
- D) İnanç ve ibadet hürriyeti

20. • Kâbe'nin etrafında dönülerek yapılır.
• Haccin farzları arasında yer alır.

Hakkında bilgi verilen kavram aşağıdakilerden hangisidir?

- A) Sa'y
- B) Tavaf
- C) Vakfe
- D) Şeytan taşlama

2. OTURUM

(531) HZ. MUHAMMED'İN HAY. – 1

1. İslam'ın ilk yıllarında Hz. Muhammed'in (sav.) Medineli 12 Müslümanla görüşmesine verilen isim aşağıdakilerden hangisidir?

- A) I. Akabe Biati
- B) II. Akabe Biati
- C) Medine Sözleşmesi
- D) İsrâ ve Miraç hadisesi

2. Aşağıdakilerden hangisi iffeti koruma yollarından biri değildir?

- A) Kanaatkâr olmak
- B) İbadetlere sarılmak
- C) Arzuların esiri olmak
- D) Haramlardan kaçınmak

3. Miraç'ta aşağıdaki ibadetlerden hangisi farz kılınmıştır?

- A) Beş vakit namaz
- B) Ramazan orucu
- C) Zekât
- D) Hac

4. Hz. Peygamber ilk cuma namazını nerede kılmıştır?

- A) Kuba Mescidi'nde
- B) Ranuna Vadisi'nde
- C) Mescid-i Nebevî'de
- D) Kâbe'de

5. Hz. Muhammed'in peygamberliğinin onuncu yılına denk gelen 619 yılına "Hüzün Yılı" denilmesinin sebebi aşağıdakilerden hangisidir?

- A) Müşriklerin Müslümanlara boykot uygulaması
- B) Amcası Hz. Hamza'nın şehit edilmesi
- C) Ebu Talip ve Hz. Hatice'nin vefat etmesi
- D) Hz. Peygamber'in Taif'te ağır hakarete uğraması

6. Müşriklerin ağır baskıları üzerine Hz. Osman liderliğinde on beş Müslümanın 615 yılında hicret ettiği yer aşağıdakilerden hangisidir?

- A) Taif
- B) Medine
- C) Şam
- D) Habeşistan

7. İsrâ ve Miraç hangi olaydan hemen sonra gerçekleşmiştir?

- A) Medine'ye hicret
- B) I. Akabe Biati
- C) II. Akabe Biati
- D) Taif ziyareti

8. İlk vahiy hangi yılda ve nerede gelmiştir?

- A) 610 - Hira Mağarası'nda
- B) 610 - Sevr Mağarası'nda
- C) 622 - Mescid-i Haram'da
- D) 622 - Arafat Dağı'nda

9. Peygamberimizin hayatı ile ilgili olarak aşağıdakilerden hangisi diğerlerinden önce meydana gelmiştir?

- A) Fil Olayı
- B) Annesi Âmine'nin vefatı
- C) Dedesi Abdulmattalib'in vefatı
- D) Süt annesi Halime'nin yanında kalmaya başlaması

10. Uhud Savaşı hangi yılda gerçekleşmiştir?

- A) 622
- B) 625
- C) 623
- D) 627

11. Peygamber Efendimiz üç şeyden uzak durdu. Bunlar; ağız kavgası, boşboğazlık ve kendisini ilgilendirmeyen konulardı.

Bu metinden Peygamberimiz ile ilgili aşağıdakilerden hangisi çıkarılamaz?

- A) Toplumsal konularla ilgilenmezdi.
- B) Başkalarının gizli yönlerini araştırmazdı.
- C) Lüzumsuz ve boş yere konuşmazdı.
- D) İnsanlar ile tartışmayı sevmezdi.

12. "Müslüman, başka Müslümanlara eliyle ve diliyle zarar vermeyen kimsedir."

Bu hadiste aşağıdakilerden hangisi vurgulanmaktadır?

- A) Müslüman, insanların yardımı-na koşan kişidir.
- B) Müslüman, bütün yaptıklarının ibadet olduğunu bilmelidir.
- C) Müslüman, din kardeşinden başkasının haklarını gözetmez.
- D) Müslüman, söz ve davranışlarıyla başkalarını incitmemelidir.

13. Peygamberimizin katıldığı son sefer aşağıdakilerden hangisidir?

- A) Taif
- B) Tebük
- C) Hayber
- D) Huneyn

14. "Utanma duygusunu kaybettiysen istediğin her şeyi yap."

Bu hadiste aşağıdakilerden hangisinin önemi vurgulanmaktadır?

- A) Gıpta
- B) Hayâ
- C) Saygı
- D) Hürmet

15. Aşağıdakilerden hangisi iman ile bağdasmaz?

- A) Tevazu
- B) İffet
- C) Edep
- D) Kibir

16. "Göklerin ve yerin gaybını bilmek Allah'a mahsustur. Bütün işler O'na döndürülür. Öyle ise O'na kulluk et ve O'na tevekkül et. Rabb'in yaptıklarınızdan habersiz değildir." (Hud suresi, 123. ayet)

Bu ayette aşağıdakilerden hangisine değinilmemiştir?

- A) Allah'ın insanları hesaba çekeceğine
- B) İbadetlerin Allah için yapılması gerektiğine
- C) Evrende mükemmel bir ahenğin olduğuna
- D) Her şeyin Allah'ın bilgisi dâhilinde gerçekleştiğine

2. OTURUM

(532) HZ. MUHAMMED'İN HAY. – 2

17. “Yavrucuğum! Yapılan iş, bir hardal tanesi ağırlığında bile olsa ve bu, bir kayanın içinde veya göklerin yahut yerin derinliklerinde bulunsa, yine de Allah onu (senin karşına) getirir. Doğrusu Allah, en ince işleri görüp bilmektir ve her şeyden haberdardır.” (Lokman suresi, 16. ayet)

Bu ayette aşağıdakilerden hangisinin önemine değinilmiştir?

- A) İyilik yapmanın
B) Çalışmanın
C) Sadakatin
D) Ailenin

18. “Allah’ı görüyormuşçasına O’na ibadet edip kulluk yapmak” **aşağıdaki kavramlardan hangisiyle ifade edilir?**

- A) İffet
B) Hayâ
C) Edep
D) İhsan

19. **Yoksul olmasına rağmen başkalarına el açmayan ve dilencilikten kaçınan kişilerin bu davranışı Kur’an-ı Kerim’de aşağıdaki kavramlardan hangisi ile ifade edilmiştir?**

- A) İhsan
B) İffet
C) Fitrat
D) Liyakat

20. “Ben, Abdullah b. Cüdan’ın evinde öyle bir sözleşmede yer aldım ki bu sözleşmeyi kızıl develere değiştirmem. Eğer şu an böyle bir sözleşmeye çağrılısam hemen gider orada bulunurdum.”

Bu hadiste bahsedilen sözleşme aşağıdakilerden hangisidir?

- A) Medine Sözleşmesi
B) Akabe Biatları
C) Hilfu'l-Fudul
D) Rıdvan Biati

1. **Hendek Savaşı öncesinde yapılan istişarede, Medine’yi savunmak için şehrin etrafına hendek kazılması fikrini dile getiren sahabe aşağıdakilerden hangisidir?**

- A) Muaz bin Cebel
B) Selman-ı Farisi
C) Ali bin Ebi Talip
D) Bilal-i Habeşi

2. **Aşağıdakilerden hangisi Habeşistan’a hicret eden kafilenin başkanı Cafer b. Ebi Talip’in Habeş Kralı Necaşi’nin huzurunda söyledikleri arasında yer almaz?**

- A) Cahiliye döneminde kuvvetlerin zayıfları ezdiği
B) Hz. Muhammed’in güçsüzlerin yanında yer aldığı
C) Hz. Muhammed’in, atalarının inançlarına hoşgörülle yaklaştığı
D) Hz. Muhammed’in yetim malı yemeyi yasakladığı

3. **Aşağıdaki ayetlerden hangisi istişare ile ilgili değildir?**

- A) “... Eğer bilmiyorsanız ilim sahiplerine sorun.” (Nahl suresi, 43. ayet)
B) “... Onların işleri aralarında danışma iledir...” (Şûrâ suresi, 38. ayet)
C) “... Her ilim sahibinin üstünde daha iyi bir bilen vardır.” (Yûsuf suresi, 76. ayet)
D) “Ey iman edenler! Allah için hakkı ayakta tutan, adaletle şahitlik eden kimseler olun...” (Maide suresi, 8. ayet)

4. “... Kim iffetli olmak isterse, Allah onu iffetli yapar. Kim de elindeki ile yetinirse, Allah onu zengin yapar. Sabretmeye gayret edene Allah sabır ihsan eder...”

Aşağıdakilerden hangisi bu hadisle ilişkilendirilemez?

- A) Dayanma gücü
B) Edep ve haya
C) Cömertlik
D) Kanaatkârlık

5. **Müminin, Allah’ın daima kendisini görüp gözettiği bilinciyle yaşamasına ne denir?**

- A) Edep
B) İffet
C) Haya
D) İhsan

6. Hz. Ebu Zer ile Hz. Bilal-i Habeşi arasında bir tartışma yaşanmıştı. Ebu Zer, Bilal’e “kara kadının oğlu” diyerek ithamda bulunmuştu. Peygamberimiz de Ebu Zer’e “Sende cahiliye adetlerini görüyorum.” diyerek uyardı. O da Hz. Bilal’den özür diledi.

Bu olaydan çıkarılacak asıl sonuç aşağıdakilerden hangisidir?

- A) Bazı örf ve adetlerin kişiyi zor durumda bıraktığı
B) Öfkenin kişiyi bazı kötü sonuçlara götürebileceği
C) İslam’ın ırk, soy ve nesebe dayalı üstünlüğü reddettiği
D) Kişiler arasında tartışmaların bazı güzel sonuçları olabileceği

7. “Her doğan çocuk fitrat üzere doğar.” **hadisi aşağıdakilerden hangisini vurgulamaktadır?**

- A) Tüm insanların eşit haklara sahip olduğu
B) Kul olma açısından insanların eşit yaratıldığı
C) Her insanın eşit özelliklere sahip olduğunu
D) İslam’ı benimseyen herkesin eşit şekilde ödüllendirileceği

8. “Ey insanlar! Şüphe yok ki, biz sizi bir erkek ve bir dişiden yarattık ve birbirinizi tanımanız için sizi boylara ve kabilelere ayırdık. Allah katında en değerli olanınız, ona karşı gelmekten en çok sakınanızdır.” (Hucurat suresi, 13. ayet)

Aşağıdakilerden hangisi bu ayette vurgulanan konulardan biridir?

- A) Yaratılıştaki herkesin eşit olduğu
B) Kabileler arası üstünlük
C) Din ve vicdan özgürlüğü
D) Yaratılışın nasıl başladığı

2. OTURUM

9. Peygamberimiz kendisini ziyarete gelen ve yanına girince de titremeye başlayan bir kişiye "Arkadaş, titreme! Ben kral değilim. Kureyş kabilesinden, kurutulmuş et yiyen bir kadının oğluyum." demişti.

Aşağıdakilerden hangisi peygamberimizin bu tutumunun asıl nedenini açıklar?

- A) Kişinin Allah'tan başka kimse-den korkmamasını istemesi
- B) Kendisine kral muamelesi yapılmasını istememesi
- C) Kişinin öz güven sahibi olmasını istemesi
- D) Kendisini diğer insanlardan ayrıcalıklı görmemesi

10. "Dul kadın, yoksul, yetim kimse-lerle ilgilenmek için gayret edip koşturan kişi gündüzü oruçla geceyi namazla geçiren kimse gibi sevap kazanır."

Bu hadiste vurgulanan konu aşağıdakilerden hangisidir?

- A) Mağdurlara yardım
- B) Gece namazı
- C) Oruç ibadeti
- D) Tutumlu olmak

11. **Aşağıdaki ayetlerden hangisi konusu bakımından diğerlerinden farklıdır?**

- A) "Onlar, kendi canları çekmesine rağmen yemeği yoksula, yetime ve esire yedirirler." (İnsan suresi, 8. ayet)
- B) "Onların (zenginlerin) mallarında, muhtaç ve yoksullar için bir hak vardır." (Zâriyât suresi, 19. ayet)
- C) "İşte o, yetimi itip kakar; yoksulu doyurmaya teşvik etmez." (Mâun suresi, 2-3. ayetler)
- D) "Ey iman edenler! Mallarınız ve çocuklarınız sizi Allah'ı anmaktan alıkoymasın..." (Münâfikûn suresi, 9. ayet)

12. "Zenginlerin davet edilip fakirlerin çağrılmadığı düğün yemeği ne fena bir yemektir."

Bu hadiste aşağıdakilerden hangisine vurgu yapılmıştır?

- A) Fakirleri koruyup kollamaya
- B) Nikâhı insanlara duyurmaya
- C) Düğünlere herkesi davet etmeye
- D) Düğünlerde yemek ikram etmeye

13. Peygamber Efendimize ilk vahiy geldiğinde telaş ile eve gelip durumu Hz. Hatice'ye anlatmış ve Hz. Hatice ona; "Üzülme, sen fakiri doyurur ve akrabaya yardım edersin. Allah, seni utandırmaz!" demişti.

Bu olayda Hz. Hatice, Peygamberimizin hangi yönüne değinmemiştir?

- A) Akrabalarla ilişkilerine
- B) Fakirleri korumasına
- C) Cesaretli kişiliğine
- D) Cömert oluşuna

14. **Hz. Muhammed (sav.)'in gençlik yıllarında, Mekke'de mağdur insanlara yardım etmek, haksızlığa uğrayanların haklarını korumak amacıyla katıldığı teşkilat aşağıdakilerden hangisidir?**

- A) Dârun-Nedve
- B) Hılful-Fudul
- C) Dârul Erkam
- D) Ashâb-ı Suffa

15. "Üzerinde bir din kardeşinin kendisine yahut malına tecavüzden doğmuş bir hak bulunan kimse, dinar ve dirhem bulunmayacak kıyamet gününden evvel, bugün dünyada mazlumdan o hakkı bağışlamasını istesin..."

Bu hadiste aşağıdakilerden hangisi vurgulanmaktadır?

- A) Kul hakkı
- B) Yetime yardım
- C) Mağdura yardım
- D) Kimsesizleri gözetme

16. "O vakit Allah'tan bir rahmet ile onlara yumuşak davrandın! Şayet sen kaba, katı yürekli olsaydın, hiç şüphesiz, etrafından dağılıp giderlerdi..." (Âl-i İmrân suresi, 159. ayet)

Bu ayette Peygamberimizin aşağıdaki yönlerinden hangisine değinilmektedir?

- A) Merhametli ve hoşgörülü olma
- B) Öksüz ve yetimlere sahip çıkma
- C) Doğru sözlü ve güvenilir olma
- D) İnsanlara eşit davranma

17. "Geride eli ermez, gücü yetmez çocuklar bıraktıkları taktirde hâlleri ne olur diye korkacak olanlar, yetimlere haksızlık etmekten korkup titresinler, Allah'tan sakınınsınlar ve doğru söz söylesinler." (Nisa suresi, 9. ayet)

Aşağıdakilerden hangisi bu ayetten çıkarılacak bir sonuçtur?

- A) Sözünde durmanın önemi
- B) Yetimlere şefkat ve merhametle yaklaşmak gerektiği
- C) Çocukların bakıma muhtaç olduğu
- D) Adil davranmanın önemi

18. "İki kişi arasında hüküm vermek için seni hakem tayin ederlerse birini dinler dinlemez hüküm verme; ikincisini de dinledikten sonra nasıl hüküm vereceğini daha iyi anlarsın."

Aşağıdakilerden hangisi bu hadisten çıkarılamaz?

- A) Taraflar iyice dinlenmelidir
- B) Hüküm verirken acele etmemelidir.
- C) Yalan şahitlik yapmaktan kaçınmalıdır.
- D) Hüküm verirken önyargılı olmamalıdır.

19. **İstişare ile ilgili aşağıda verilen bilgilerden hangisi doğrudur?**

- A) Herkesle istişare yapılabilir.
- B) İstişare edilecek kişi güvenilir olmalıdır.
- C) İstişare özgür düşüncenin gelişmesine engeldir.
- D) İstişare edilen kişinin her söylediği doğru kabul edilmelidir.

2. OTURUM

20. Aşağıdaki ayet ve hadislerden hangisinin konusu, yetimleri kollamakla ilgili değildir?

- A) "Eğer kalbinin yumuşamasını istiyorsan fakiri doyur, yetimin başını okşa." (Hadis-i Şerif)
- B) "Onlar kendi canları çekmesine rağmen yemeği yoksula, yetime ve esire yedirirler." (İnsan suresi, 8. ayet)
- C) "Şu dünya malı gerçekten çekici ve tatlıdır. Buna bir Müslümanın sahip olması ne kadar güzeldir! Yeter ki ondan fakire, yetime ve yolcuya versin." (Hadis-i Şerif)
- D) "... Sana, iyilik yolunda ne harcayacaklarını sorarlar. 'İhtiyaç fazlasını' de ..." (Âl-i İmran, 159. ayet)

(613) SEÇ. DİL VE ANLA. – 3

1. Yaşlı adam, bitkin adımlarla bacaklarını hiç bükmeden değnek gibi öne atıyordu; iki büküm, elindeki bastonunu yere hafifçe vurarak pastaneye doğru yavaş yavaş yürüyordu. Ömrümde böylesine garip biçimli bir adam görmemiştim. Daha önceleri de Miller'in pastanesinde onunla her karşılaşmamda tuhaf bir duyguya kapılırdım.

Bu parçanın anlatımında aşağıdakilerin hangisinden yararlanılmıştır?

- A) Açıklama-Tartışma
- B) Tartışma-Öyküleme
- C) Betimleme-Açıklama
- D) Öyküleme-Betimleme

2. Aşağıdaki cümlelerin hangisinde özne bir anlatım vardır?

- A) Bir yazarın neyi söylediğinden çok nasıl söylediği önemlidir.
- B) Sanatçının bu eseri edebiyatımızdaki ilk realist romanmış.
- C) Eş sesli kelimeler dize sonlarında cinaslı kafiye oluşturur.
- D) Yeşil renkli bir araç az önce evimizin yakınına park etti.

3. Aşağıdakilerden hangisi doğru-anlatım cümlesidir?

- A) Okurun edebî romanlara eskisi kadar ilgi göstermediğini belirtti.
- B) Bu mevsimde her günün kar yağışıyla geçtiğini söyledi.
- C) Başarımın tek sırrı düzenli ders çalışmamdır, demişti.
- D) Sanat adamının çevresindeki sorunlara duyarsız kalmayacağını dile getirdi.

4. I. Olandan çok olması istenen anlatılır.
II. Dil daha çok göndergesel işlevde kullanılır.
III. Konu; olağanüstü ve fantastik özelliklere sahip, hayal ürünüdür.

Numaralanmış özelliklerle aşağıdaki anlatım türleri eşleştirildiğinde hangisi dışta kalır?

- A) Gelecekte söz eden anlatım
- B) Emredici anlatım
- C) Öğretici anlatım
- D) Düşsel (fantastik) anlatım

5. Sinemanın ilk bulunduğu, sonra da yayılmaya başladığı yıllarda düşüncelerde beliren sorulardan biri de şuydu: Tiyatro, sinemanın karşısında yaşamını sürdürebilecek mi? Sinema yeni bir buluştu o zaman. Şaşılacak bir hızla geliyor, seyirci sayısını günden güne artırıyor. Başlıca özelliklerinden biri de çok sayıda insana seslenme gücüyü. Kısa sürede yaygınlaştı.

Bu parçanın anlatım biçimi aşağıdakilerden hangisidir?

- A) Tartışmacı anlatım
- B) Öyküleyici anlatım
- C) Betimleyici anlatım
- D) Açıklayıcı anlatım

6. Aşağıdaki cümlelerin hangisinde bir anlatım bozukluğu vardır?

- A) Bulaşıkları ben, çamaşırları kardeşim yıkadı.
- B) Kitabı dikkatle inceledim ancak beğenmedim.
- C) Yemekler çok güzeldi ama servis iyi değildi.
- D) Yeni çıkan kitapları alıyor, hemen okuyordu.

7. Konuşmacının bu sunumda başarılı olduğunu pek söyleyemem. Buna neden olan en büyük etken dinleyici kitlesini iyi analiz etmemiş olması, yani onların seviyesini göz önünde bulundurmamasıydı. Sunumu sırasında kullandığı pek çok teknik terimin dinleyiciler tarafından bilinmemesi büyük bir kusurdu. Hâliyle sunumu da hedefine ulaşmamış oldu.

Bu parçada sözü edilen konuşmacının sunumda başarısız olmasının nedeni aşağıdaki anlatım niteliklerinden hangisiyle ilgilidir?

- A) Açıklık
- B) Özlülük
- C) Duruluk
- D) Tutarlılık

8. Su, tepelerin arasındaki kaynaktan geliyordu. İki yanında sıra kavaklar, yamru yumru söğütler vardı. Tepelerde başlayan orman, doğuda Belgrat'a, batıda Istranca'ya bağlanıyordu. Kömüryakıcı'yı dün akşam avluda odun keserken görmüştü. Tek eliyle kullandığı kısa saplı balta, bilek kalınlığındaki dalları bir vuruşta peynir gibi doğruyordu.

Bu parçanın anlatımıyla ilgili aşağıdakilerden hangisi söylenemez?

- A) Betimlemeden yararlanılmıştır.
- B) Soyut bir anlatımı vardır.
- C) Benzetme sanatı kullanılmıştır.
- D) Dilin göndergesel işlevinden de yararlanılmıştır.

9. Aşağıdaki cümlelerin hangisinde anlatım kahraman bakışıyla yapılmıştır?

- A) O gece aklımdan geçenleri kızına açmadı Füsün Hanım ve otobüsle şehirden ayrıldılar.
- B) İstanbul'da normal hayatıma dönmek zor geldi bana, bir süre bocaladım.
- C) Raskolnikov kapıda durmuştu; müzik, usul usul ve gamlı bir hava içinde başlamıştı.
- D) Şevket Bey tekrar gazetesini açtı, spor sayfası dışında bütün yazıları okudu.

2. OTURUM

10. Aşağıdaki dizelerin hangisinde alışılmamış bağdaştırma vardır?

- A) Geldiniz, batarken güneş denize,
Bir kere sözümü dinlediniz de!
- B) Bir dağa çıktım ki eteklerinde Kadınlar türküyle ağaç yarardı
- C) Göğsümün parmaklıklarında tutsak
Kurtulmak ister aşkımdan yüreğim
- D) Kuşlar geçecek damların üstünden
Kuşlar konacak dallara

11. Bir iletişimde duygu, düşünce ve isteğin aktarılmasında sözü söyleyen kişi veya topluluğa ---- denir.

Bu cümlede boş bırakılan yere aşağıdakilerden hangisi getirilmelidir?

- A) bağlam
- B) kanal
- C) alıcı
- D) gönderici

12. Aşağıdakilerden hangisi sunum sırasında yapılması gerekenlerden biridir?

- A) Sunum yapılacak yer önceden görülmelidir.
- B) Güncel bir konu seçilmelidir.
- C) Bilgisayar, CD, projeksiyon cihazı, mikrofon gibi araçlardan faydalanılmalıdır.
- D) Kullanılacak malzemeler kontrol edilmelidir.

13. Mevsimler, yerin Güneş'e uzaklığındaki değişikliklere değil, yörünge düzlemine inilen dikme ile dönem eksenini arasındaki açıya bağlıdır; bu açı 23,27 derecedir. Kuzey yarı küre Güneş'e yöneldiğinde kuzey yazları ortaya çıkar; kuzey kışlarındaysa güney yarı küre Güneş'e döner.

Bu parçada dil hangi işleviyle kullanılmıştır?

- A) Göndergesel işlev
- B) Kanalı kontrol işlevi
- C) Alıcıyı harekete geçirme işlevi
- D) Heyecana bağlı işlev

14. Nasıl yaşayacağım ey deniz, senden uzak?

Yanıp sönüyor gibi gözlerimde fenerin.
Uyuyor mu limanda her gece salımlanarak
Altından çivilerle çakılmış gemilerin?

Bu dörtlüğün teması aşağıdakilerden hangisidir?

- A) Pişmanlık
- B) Özlem
- C) Umutsuzluk
- D) Yalnızlık

15. Aşağıdaki temalardan hangisi en çok sınırlandırılmıştır?

- A) Cumhuriyet Dönemi'ndeki tarihî romanlar
- B) Edebiyatımızdaki tarihî romanlar
- C) Dünya edebiyatındaki tarihî romanlar
- D) Kemal Tahir'in tarihî romanları

16. Aşağıdaki cümlelerin hangisinde dil, heyecana bağlı işlevde kullanılmıştır?

- A) Hiç sevmiyorum şu adamı, dahası ona acıyamıyorum bile.
- B) Göl sanırdık ne zaman dalsak ela gözlerine
Seyrederdik seni günlerce gülistan yerine
- C) İletişim iki yönlü bir süreç olduğu için ne sadece alış ne de sadece verişi iletişimi oluşturur.
- D) Önce bahçedeki otları yolun, sonra da çiçekleri ve sebzeleri sulayın.

17. Aşağıdakilerden hangisi panelin özelliklerinden değildir?

- A) Konuşmacılar, uzmanı oldukları alanın farklı yönlerini ele alır.
- B) Dinleyiciler önünde, sohbet havası içinde yapılır.
- C) Panelin sonunda konu hakkında bir karara varılır.
- D) Dinleyiciler konuşmacılara soru sorabilir.

18. Aşağıda verilen bilgilerden hangisi yanlıştır?

- A) Gezi yazısı türünde öyküleyici anlatıma da başvurulur.
- B) Mizahi anlatım makalelerde kullanılır.
- C) Tartışmacı ve kanıtlayıcı anlatımda dil daha çok göndergesel işlevde kullanılır.
- D) Tiyatro, mülakat, roman türlerinde söyleşmeye bağlı anlatım kullanılır.

19. Aşağıdaki cümlelerin hangisinde anlatım bozukluğu vardır?

- A) Sanıyorum siz hazırladığımız rapora hiç ama hiç güvenmiyorsunuz.
- B) Böyle bir yatırım yapmak için bundan daha elverişli ve müsait bir ortam bulamazsınız.
- C) Yörenin bütün edebî ürünleri ve kültürel yaşam biçimi bir çalışmayla derlendi.
- D) Şirketin bilgisayarına giren korsanlar önemli ve gizli bazı bilgileri ele geçirmiş.

20. Özgür düşünce hem tutucu, gelenekçi hem de özgür olamaz. Nasıl olabilir ki düşünce özgürlüğü eski düşünce kalıplarını kırmanın ta kendisidir. Kendi aklını kullanmayan insan, kitapların en güzeline de inansa özgür düşünemiyor demektir. Bununla birlikte özgür düşünce bütün akıllara başvuran, kendini beğenmeyen, durmadan gelişmek isteyen düşüncenin ta kendisidir.

Bu parçadan "özgür düşünmek" ile ilgili aşağıdaki yargılardan hangisine ulaşamaz?

- A) Topluların ilerlemesi özgür düşünceli insanlara bağlıdır.
- B) Özgür düşünmek isteyenler yenileşmeye açık olmalıdır.
- C) Sadece kendi aklıyla hareket eden insanlar özgür düşünemez.
- D) Özgür düşünenler, kalıplaşmış düşüncelere karşıdır.

2. OTURUM

(614) SEÇ. DİL VE ANLA. – 4

1. Bir sıcak selamla gelir uzaktan Vapurlar, mavnalar, tramvaylar Ve bir eski türküyle alıp gider gönlümü Sultan duruşlu yalılar, padişah bakışlı saraylar
Bu dörtlükle ilgili aşağıdakilerden hangisi söylenemez?
- A) Benzetme sanatından yararlanılmıştır.
B) Dil, sanatsal işlevde kullanılmıştır.
C) Lirik anlatımdan yararlanılmıştır.
D) Bütün sözcükler gerçek anlamlarıyla kullanılmıştır.
2. Ey oğul! Devletin hazinesini koru. Devletin servetini çoğaltmaya çalış. İhtiyaçlarından fazlasını harcama. İsraftan kaçın. Askerinle, malınla gururlanma. Devlet büyüklerini koru. Vefatlarından sonra böyle kimselerin çoluk çocuğuna bak, onların ihtiyaçlarını karşıla.
Bu parçada aşağıdaki anlatım türlerinden hangisi kullanılmıştır?
- A) Emredici anlatım
B) Destansı anlatım
C) Kanıtlayıcı anlatım
D) Öyküleyici anlatım
3. **Aşağıdaki cümlelerin hangisinde kuralı birleşik fiil yoktur?**
- A) Otobüse biner binmez uyuyakalmışım.
B) Bakkaldan ekmekle peynir aldılar.
C) Hiç sormadan gelip yanıma oturuverdi.
D) İşe geç kalırsam müdür kızabilir.
4. Kış mevsiminde karalar denizlere oranla daha fazla soğuyarak yüksek basınç alanı oluşturur. Aynı mevsimde denizler ve okyanuslar üzerinde alçak basınç alanı vardır. Bunun sonucu olarak karaların iç kesimlerinden denize ve okyanuslara doğru büyük bir hava akımı olur. Bu rüzgârlara kış musonu denir.
Bu parçada aşağıdaki anlatım türlerinden hangisi kullanılmıştır?
- A) Betimleyici anlatım
B) Tartışmacı anlatım
C) Öğretici anlatım
D) Gelecekte söz eden anlatım

5. - - - - gerçeklikle ilgisi olmayan tamamen çağrışımlara dayalı olaylar, kişiler ve zamanlar anlatılır. - - - - ise gerçeklerden yola çıkılarak tahmine dayalı bir anlatım yolu benimsenir. Yani bu anlatım türü gerçeğe daha yakındır.
Bu parçada boş bırakılan yerlere sırasıyla aşağıdakilerin hangisinde verilenler getirilmelidir?
- A) Gelecekte söz eden anlatımda – Düşsel anlatımda
B) Destansı anlatımda – Coşku ve heyecana bağlı anlatımda
C) Düşsel anlatımda – Gelecekte söz eden anlatımda
D) Coşku ve heyecana bağlı anlatımda – Destansı anlatımda
6. Ormanlara zarar verebilecek hiçbir faaliyet ve eyleme müsaade edilemez. Ormanların tahrip edilmesine yol açan siyasî propandada yapılamaz; münhasıran orman suçları için genel ve özel af çıkarılamaz. Ormanları yakmak, ormanı yok etmek veya daraltmak amacıyla işlenen suçlar genel ve özel af kapsamına alınmaz.
Bu parçada aşağıdaki anlatım türlerinden hangisi kullanılmıştır?
- A) Destansı B) Düşsel
C) Mizahi D) Emredici
7. **Aşağıdaki cümlelerin hangisinin yüklemi geçişsiz bir fiildir?**
- A) Son zamanlarda çok erken saatlerde uyuyorum.
B) Eskiden her akşam iki saat kitap okuyordum.
C) Kısa bir sürede mükemmel bir masa hazırladı.
D) Bu sınavda senin başarılı olacağını biliyorum.

8. Ünlemler; sevinç, üzüntü, korku, pişmanlık, onaylama, şaşkınlık gibi çeşitli duyguları ifade eder. Ancak ünlemler bunların hiçbirinin adı değildir. Ünlemler ne bir anlam bildirir ne de adlandırma olarak görev yapar. Ünlemler insanın çeşitli duygularını, gönül durumlarını ortaya koyan sözcüklerdir.
Bu parça ile ilgili olarak aşağıdakilerden hangisi söylenemez?
- A) Öğretici anlatım özelliği göstermektedir.
B) Öznellik ağır basmaktadır.
C) Dil, göndergesel işlevde kullanılmıştır.
D) Sözcükler daha çok gerçek anlamıyla kullanılmıştır.
9. **Aşağıdaki cümlelerin hangisinin yüklemi gereklilik kipiyle çekimlenmiştir?**
- A) Hava güzel olursa ben de sizinle geleyim.
B) Bu ödevi yarına kadar bitirmeliyim.
C) Bizi de sinemaya götürür müsünüz?
D) Hava kararmadan eve dön.
10. Eylemlerden, eylemsilerden önce gelerek onları zaman, durum, miktar, soru, derecelendirme bakımından belirten sözcüklere zarf (belirteç) denir.
Bu tanıma göre aşağıdaki altı çizili sözcüklerin hangisi zarf (belirteç) olarak kullanılmamıştır?
- A) Beklenen kar yarın yağacakmış.
B) Öğretmenimiz sıraların arasında yavaşça yürüyordu.
C) Yukarı mahalleye ilkokul arkadaşım taşınmış.
D) Yazılıya pek çalışmadığını söyledi.
11. “Deniz” sözcüğü aşağıdakilerin hangisinde özel isim olarak kullanılmıştır?
- A) Deniz balığını tatlı su balığına tercih ederim.
B) Deniz, birkaç gündür okula gitmiyormuş.
C) Deniz kenarındaki yalılar restore edilecek.
D) Deniz, balıkçılıkla geçinenler için ayrı bir öneme sahiptir.

2. OTURUM

12. Aşağıdaki altı çizili sözcüklerin hangisi soyut isimdir?

- A) Bütün koyunlarımı aylalarda bıraktım.
- B) Bir bayrak dalgaları Antep Kalesi üstünde.
- C) Siyah saçlarını bir rüzgâr savuracak.
- D) Bu derdi yazmakla, çizmekle anlatamam.

13. Aşağıdakilerin hangisinde I. kişili anlatım kullanılmıştır?

- A) Seneler var ki kuşlar gelmiyor. Daha doğrusu ben göremiyorum. Güzün o güzel günlerini pencereden görür görmez Konstantin Efendi'nin bulunabileceği sırtları hesaplayarak yollara çıkıyorum.
- B) İki ahbab parasız kalınca oturup nasıl para kazanacaklarını düşünmeye başlamışlar. Doluya koymuşlar almamış, boşa koymuşlar dolmamış. Ümitlerini kaybetmek üzereyken akıllarına bir fikir gelmiş.
- C) Geçtiği dağlarda kaynaklar sel hâline gelmiş, dereler ırmak hâlini almıştı. Yolcu, değneğine dayana dayana ırmağın kenarına geldi.
- D) Saatler geçtikçe Ali, kendini daha da yalnız hissediyor ve buraya niçin geldiğini sorguluyordu. Şimdi sıcacık evinde çayını yudumluyor olabilirdi.

14. Gönlüm nakış nakış renkli bir kilim
Bir kınalı güzel türküdür dilim
Yeminle anlatsam kim inanır kim
İçine düştüğüm bu çılgın hâle

Bu dörtlükte aşağıdakilerden hangisi yoktur?

- A) Türemiş sıfat
- B) Niteleme sıfatı
- C) Soru sıfatı
- D) İşaret sıfatı

15. "O" sözcüğü aşağıdaki dizelerin hangisinde diğerlerinden farklı bir görevde kullanılmıştır?

- A) O eski sular yok taş oluklarda.
- B) O, benim milletimin yıldızdır parlayacak
- C) O şehirde var benim bir sevdiğim.
- D) Yok şimdi o dostlar eski yerinde.

16. Basamak basamak indiğim taş merdivenler, dirsek verip beni sola yönlendirince karşılaştığım görüntü düşlerimi bıçak gibi kesip attı, adım atmayı bile unutarak öylece kalakaldım o büyümlü manzaranın önünde. Sularında büyüyen ağaçlarmış gibi yan yana, sıra sıra uzanan, tuhaf başlıklı yüzlerce sütundan oluşan loş ışıklı büyümlü bir göl uzanıyordu ayaklarımın dibinde. Hayır, Yerebatan Sarayı'na ilk kez gelmiyordum ama her gelişimde aynı duyguyu yaşadığımı anımsıyorum.

Bu parçanın anlatımıyla ilgili olarak aşağıdakilerden hangisi söylenemez?

- A) Betimleyici öğelere yer verilmiştir.
- B) Yinelemelere başvurulmuştur.
- C) Karşılaştırmalar yapılmıştır.
- D) Benzetmelerden yararlanılmıştır.

17. Aşağıdaki cümlelerin hangisinde altı çizili sözcük diğerlerinden farklı bir türde kullanılmıştır?

- A) Tarifsiz duygular içinde evin yolunu tutmuştum.
- B) Karşılık beklenmeden yapılan iyiliklerdir sizi yücelten.
- C) Atalarımız on asır önce bu topraklara yerleşmiş.
- D) Program üzerinde çalışıkça yeni sorunlarla karşılaşıyorduk.

18. Soğuk bir öğleden sonraydı ama hava sanki güneşten değil de parlayan buz parçalarından oluşmuş ve ışınları da gökyüzünden sarkan buz saçaklarıymış gibi açıktı. Evlerin çatılarında parçalanmış bu ışınlar, sonra çayirlarda ışıyordu. Birkaç tavşanı bir kenara bırakırsak bütün arazi boydan boya bomboş ama gösterişsizliği ve ıssızlığıyla huzurlu bir hâldeydi.

Bu parçada ağır basan anlatım türü aşağıdakilerden hangisidir?

- A) Öyküleyici
- B) Betimleyici
- C) Destansı
- D) Açıklayıcı

19. Aşağıdaki cümlelerin hangisinde soru anlamı sıfatla sağlanmıştır?

- A) Nasıl bir projeyi yürütüyorsunuz?
- B) Niçin orada bu kadar oyalandınız?
- C) Ne üzüp duruyorsun kendini böyle?
- D) Hangi tarafa gideceğimizi biliyor musun?

20. Bir tek sevincimiz oldu bizim

Hiç kimse dayanamaz

Her ruh barınır

Geceleri uzaktaki kuşlara ısmarlarız

Bu dizelerde aşağıdaki zamir çeşitlerinden hangileri kullanılmıştır?

- A) Kişi – Belgisiz
- B) İşaret – Soru
- C) Kişi – İşaret
- D) Belgisiz – Soru

(615) SEÇ. DİL VE ANLA. – 5

1. Benim çocukluğumun ramazanları kara kışa rastlamıştı. Onun içindir ki kulağımda kalan ilk davul sesi oldukça kof ve hayli neşesizdi. Zira davulun derisi rutubetten pörsümüştü. Ayrıca ses, kapalı camlar ve kafesler ardından içeriye boğuklaşarak girerdi. Fakat annemin kış ramazanını yazınkilere tercih ettiğini çok iyi hatırlıyorum.

Bu parça aşağıdaki metin türlerinin hangisinden alınmıştır?

- A) Günlük
- B) Anı
- C) Biyografi
- D) Deneme

2. Aşağıdaki cümlelerin hangisinde bilgi yanlışlığı vardır?

- A) Biyografi türündeki yazılara eskiden tercümeihâl adı verilir.
- B) Dünyada biyografinin ilk büyük yazarı eski Yunan edebiyatında Plutarkhos'tur.
- C) Şairlerin hayatı ve sanatı hakkında bilgi veren şuar tezkireleri de otobiyografi örneğidir.
- D) Otobiyografiler, yazarın kendisi tarafından yazıldığı için birinci tekil şahıs kullanılır.

2. OTURUM

3. Aşağıdakilerden hangisi sohbet türünde yazılmış bir eser değildir?

- A) Eşref Saat (Şevket Rado)
- B) Edebiyat Söyleşileri (Suut Kemal Yetkin)
- C) Karalama Defteri (Nurullah Ataç)
- D) Dertli Dolap (Nezihe Araz)

4. Ahmet Hamdi Tanpınar'ın başarısı, kendini keşfettikten sonra hayatı boyunca mizacına bağlı kalması ve aynı doğrultuda kültürü ve yaşayışı ile geliştirmesidir. İşte bu üç şeyin mizaç, kültür ve çalışmanın birleşmesidir ki onu neslinin en kuvvetli ve en mükemmel şairi yapmıştır.

Bu metnin türü aşağıdakilerden hangisidir?

- A) Eleştiri
- B) Günlük
- C) Otobiyografi
- D) Anı

5. Aşağıdakilerden hangisi bir makaleden alınmıştır?

- A) Asırlardır kötümserler, köşelerinden dünyanın kötüye gittiğinin doksan dokuz nedenini sayarlarken iyimserler epey yol almış, pek çok iş başarmışlardır.
- B) İnsan çocukluk çağından kurtuldu mu tam anlamıyla yaşama başlar ve yaşadığı günlerle geçmiş günleri kıyaslamaktan kendini alamaz. Bu kıyaslama yaşadığı günlerin zararına olur.
- C) Ona seslenen adam, şoföre bulunduğu yeri işaret ediyordu. Yol kenarından bir araba daha ona doğru geliyordu. Fakat araba birden durdu.
- D) Türkçe bugün Türk dil ailesinin en fazla konuşulan kollarından biridir. Yaklaşık seksen milyon kişinin konuştuğu Türkiye Türkçesi yalnızca Türkiye'de değil, diğer bölgelerde de konuşulan ve yazılan dillerdendir.

6. Dünya edebiyatında deneme türünün ilk örneklerini veren - - - - olmuştur. Türk edebiyatında deneme türünün ilk örnekleri - - - - sonra verilmiştir.

Bu cümlelerde boş bırakılan yerlere sırasıyla aşağıdakilerden hangileri getirilmelidir?

- A) Montaigne – Cumhuriyet'ten
- B) Francis Bacon – Millî Edebiyat'tan
- C) Alain – Tanzimat'tan
- D) Montaigne – II. Meşrutiyet'ten

7. Aşağıdaki cümlelerin hangisinde bilgi yanlış vardır?

- A) Salah Bırsel, Nurullah Ataç, Falih Rıfkı Atay gibi sanatçılar önemli günlük yazarlarımızdandır.
- B) En eski mektup örnekleri Roma ve Yunan medeniyetine aittir.
- C) İlk biyografi yazarı Ali Şir Nevai'dir.
- D) Tezkire, menakıpname, siyer, vakayiname gibi türler anıya özgü özellikler taşır.

8. Aşağıdakilerden hangisi bir kişinin biyografisi yazılırken yararlanılabilecek kaynaklardan biri değildir?

- A) Kişinin röportajları
- B) Kişi hakkında yazılan yazılar
- C) Kişi hakkındaki söylentiler
- D) Kişinin yakın arkadaşları

9. Aşağıdakilerden hangisi konusuna göre haber yazılarından değildir?

- A) Siyasal haber yazıları
- B) Sansasyonel haber yazıları
- C) Sanatla ilgili haber yazıları
- D) Ekonomiyle ilgili haber yazıları

10. Aşağıdaki cümlelerin hangisinde ikileme zıt anlamlı kelimelerle kurulmuştur?

- A) Mırın kırın etme de işini yap!
- B) Çoluk çocuk içeriye doluştular.
- C) İşler bugünlerde ağır aksak yürüyor.
- D) Onun sırrını er geç öğreneceğim.

11. Aşağıdakilerden hangisi anlatmaya bağlı edebî metinlerden değildir?

- A) Destan
- B) Masal
- C) Roman
- D) Komedi

12. Aşağıdakilerden hangisi öğretici metinlerin özelliklerinden biridir?

- A) Anlatış biçimi ve estetik önemlidir.
- B) Açık ve anlaşılır bir dil kullanılır.
- C) Gerçeklik ön planda değildir.
- D) Kelimeler gerçek anlamlarıyla değil, yan ve mecaz anlamlarıyla kullanılır.

13. Aşağıdakilerden hangisi kişisel hayatı konu alan metinlerden değildir?

- A) Mektup
- B) Sohbet
- C) Anı
- D) Gezi yazısı

14. Bir gün baksam ki gelmişsin Hasretin içimde sonsuzluk kadar Şaşırmış kalmışım birdenbire çaresiz Dökülmüş yüreğime gökyüzünden yıldızlar **Bu dördülikle ilgili aşağıdakilerden hangisi söylenemez?**

- A) Sanatsal metindir.
- B) Duygular ifade edilmiştir.
- C) Dil göndergesel işlevde kullanılmıştır.
- D) İmgelere yer verilmiştir.

15. Günlük için aşağıdakilerden hangisi doğrudur?

- A) Kişisel hayatı konu alan metin
- B) Göstermeye bağlı edebî metin
- C) Gazete çevresinde gelişen metin
- D) Anlatmaya bağlı edebî metin

2. OTURUM

16. Aşağıdakilerden hangisi bir sanat metninden alınmıştır?

- A) Edebî eserin ana konusu insandır. Hayatı ve çevresi ile insan. Buradan hareketle denebilir ki edebiyat, insan gerçeğinin estetik ifadesi peşindedir.
- B) Günümüz dünyasında çevre kirliliği, tüm gezegeni kaplayan boyutlara ulaşmış durumda. Dünyanın birçok bölgesinde insanlar çevre felaketine karşı korumasız bir yaşam sürmektedir.
- C) Sanatçıya dönük eleştiride biyografik diyebileceğimiz bir eleştiri yöntemi büyük yer tutar. Fakat biyografik eleştirinin de çeşitleri vardır. Bunlardan biri, yazarın ya da şairin hayatını yazmaktır.
- D) Kırkların yorgun sessizliğini bozan hüzünlü çingirak sesleri, uzak yakın ineklerin böğürtüsü, köpeklerin havlayışı hafif bir uğultunun içinde kayboluyordu. Küçük bir sürü, köyün girişinde bekliyordu.

17. Leyla gelin oldu, Mecnun mezarda
Bir susuz yolcu yok şimdi dağlarda
Ateşten kızaran bir gül arar da
Gezer bağdan bağa çoban çeşmesi

Bu dizeler aşağıdaki metin türlerinin hangisine örnek oluşturur?

- A) Coşku ve heyecanı dile getiren metin
B) Gazete çevresinde gelişen metin
C) Kişisel hayatı konu alan metin
D) Bilimsel metin

18. İngiliz bilim insanları, kök hücreden minyatür karaciğer geliştirdiler. Daily Mail gazetesine göre mini karaciğerler, ilaçların test edilmesinde kullanılabilir ve gelecekte organ nakli için de ilk adımı oluşturabilir. Gazetenin haberine göre Newcastle Üniversitesi bilim insanları, kordon kanından elde edilen kök hücreyi laboratuvar ortamında, madenî para büyüklüğünde bir karaciğere dönüştürmeyi başardı.

Bu metin aşağıdaki türlerin hangisinden alınmıştır?

- A) Hatıra
B) Sohbet
C) Haber yazısı
D) Eleştiri

19. Bir yazarın gazetelerde; güncel bir konu üzerinde kişisel görüş ve düşüncelerini akıcı bir dille belgelendirme gereği duymadan yazdığı nükteli fikir yazılarına - - - - denir.

Bu cümlede boş bırakılan yere aşağıdakilerden hangisi getirilmelidir?

- A) deneme B) fıkra
C) makale D) eleştiri

20. Sohbet türüyle ilgili aşağıdaki eser-yazar eşleştirmelerinden hangisi yanlıştır?

- A) Ramazan Sohbetleri – Mehmet Akif Ersoy
B) Eşref Saat – Şevket Rado
C) Karalama Defteri – Nurullah Ataç
D) Edebiyat Söyleşileri – Suut Kemal Yetkin

(616) SEÇ. DİL VE ANLA. – 6

1. Aşağıdakilerden hangisi mülakatın özelliklerinden değildir?

- A) Söyleşmeye bağlı anlatımdan yararlanır.
B) Konu tüm ayrıntılarıyla ele alınmalıdır.
C) Ünlü kişilerin çeşitli yönlerini tanıtmak için yazılır.
D) Metinleri öğretici ve ufuk açıcudur.

2. Arkadaşlar! Sizler doğrudan doğruya milletimizi oluşturan halk sınıflarının içinden ve onlar tarafından seçilmiş olarak geliyorsunuz. Bunun için memleketimizin, milletimizin hâlini, ihtiyacını, emellerini, üzüntülerini yakından biliyorsunuz. Sizin söyleyeceğiniz sözler, alınmasını isteyeceğiniz önlemler doğrudan halkın dilinden söylenmiş gibi kabul olunur. Bu, en büyük doğrudur.

Bu metnin türü aşağıdakilerden hangisidir?

- A) Söylev B) Mülakat
C) Röportaj D) Deneme

3. Söylev türünün ilk örnekleri - - - - ve - - - - Dönemleri'nde görülmüştür.

Bu cümlede boş bırakılan yerlere aşağıdakilerden hangisi getirilmelidir?

- A) Eski Yunan – Roma
B) Sümer – Pers
C) Asur – Roma
D) Eski Yunan – Sümer

4. “Anadolu kilimleri”nin anlatıldığı bir röportajın türü aşağıdakilerden hangisidir?

- A) Bir inanışı konu alan
B) Bir yeri konu alan
C) Bir insanı konu alan
D) Bir eşyayı konu alan

5. Sesi, topluluğun sesine dönüştürmek, insanları coşturmak, insanlarda tartışma atmosferi oluşturmak bu türün en önemli özellikleridir.

Bu parçada sözü edilen tür aşağıdakilerden hangisidir?

- A) Mülakat B) Röportaj
C) Söylev D) Makale

6. Yusuf, Türk edebiyatı öğretmenin verdiği proje ödevi için iki saz şairiyle görüşme yapacak ve ödevini bu görüşmeye göre hazırlayacaktır.

Buna göre Yusuf ödevini aşağıdaki türlerin hangisinden yararlanarak oluşturur?

- A) Mülakat B) Makale
C) Söylev D) Gezi yazısı

7. - Ele alınan konu açık, kesin ve inandırıcı biçimde ortaya konur.
- Özellikle millî ve manevî konularda hazırlanır.
- Jest ve mimiklerden yararlanır.

Bu özellikler aşağıdaki türlerden hangisine aittir?

- A) Mülakat B) Röportaj
C) Söylev D) Makale

2. OTURUM

8. Palas Gölü ne yazık ki Türkiye'deki sulak alanların karşılaştığı temel problemlerle tehdit altında. Bölge halkı 2002 yılına kadar gölün kurutulmasını istiyordu. Ekonomik bakımdan gölün kendilerine yarar sağlamadığını söyleyen bazı kişiler gölün kurutulmasıyla yeni tarım arazilerinin oluşacağını savunuyordu. Bu istek doğrultusunda Devlet Su İşleri, 1989 yılında Palas Gölü'nün kurutulmasına yönelik bir ön proje hazırladı.

Bu metnin türü aşağıdakilerden hangisidir?

- A) Mülakat B) Söylev
C) Anı D) Röportaj

9. Ünlü kişilerin çeşitli yönlerini tanıtmak ve toplumu ilgilendiren önemli bir konuyu aydınlatmak için ünlü kişiler ve uzmanlarla yapılan görüşmeleri sorulu-cevaplı olarak aktaran yazılara - - - - denir.

Bu cümlede boş bırakılan yere aşağıdakilerden hangisi getirilmelidir?

- A) söylev B) röportaj
C) mülakat D) biyografi

10. **Aşağıdakilerden hangisi ülkemizde önemli söylevcilerden biri değildir?**

- A) Mustafa Kemal Atatürk
B) Ömer Naci
C) Hamdullah Suphi Tanrıöver
D) Yaşar Kemal

11. - - - - sözcüğünün kelime anlamı "buluşmak, görüşmek"tir.

Bu cümlede boş bırakılan yere aşağıdakilerden hangisi getirilmelidir?

- A) Röportaj B) Mülakat
C) Sohbet D) Makale

12. **Röportajla ilgili aşağıdakilerden hangisi söylenemez?**

- A) Ses kayıtları, belge ve fotoğraflardan yararlanır.
B) Yazar, konuyla ilgili düşüncelerine yer verebilir.
C) Derinlemesine inceleme ve araştırma gerektiren bir türdür.
D) Konu, sadece soru-cevap şeklinde ortaya konur.

13. Topluluk karşısında konuşma sanatına - - - -, bu konuşmayı yapan kişiye de - - - - denir.

Bu cümlede boş bırakılan yerlere sırasıyla aşağıdakilerden hangisi getirilmelidir?

- A) söylev – muhabir
B) nutuk – eleştirmen
C) hitabet – hatip
D) mülakat – ozan

14. - - - -; araştırma, inceleme ve sonuçlandırmaya dayanan bazı gerçeklerin ortaya çıkmasına yardımcı olan bir türdür. - - - - ise soru ve cevaplardan oluşur, yazar kendi düşüncelerini ortaya koymaz.

Bu parçada boş bırakılan yerlere aşağıdakilerin hangisinde verilenler sırasıyla getirilmelidir?

- A) Makale – Söylev
B) Röportaj – Mülakat
C) Söylev – Röportaj
D) Mülakat – Makale

15. I. Dilin özelliklerini iyi bilmelidir.
II. Toplulukları inandırma yeteneği olmalıdır.
III. Dinleyicilerin kültür düzeylerini ve zevkini dikkate almalıdır.
IV. Abartılı söyleyiş ve argoya yer vermemelidir.

Yukarıda numaralanmış cümlelerden hangisi söylev veren kişinin özelliklerinden değildir?

- A) I. B) II.
C) III. D) IV.

16. **Aşağıdaki anlatım türlerinden hangisinin röportajda kullanımı daha azdır?**

- A) Söyleşmeye bağlı anlatım
B) Kanıtlayıcı anlatım
C) Düşsel anlatım
D) Öyküleyici anlatım

17. **Söylevle ilgili aşağıdakilerden hangisi yanlıştır?**

- A) Söylev dinleyicilerin ilgisini çekecek cümlelerle başlanmalıdır.
B) Söylev sırasında dinleyicilere söz hakkı verilmelidir.
C) Konuşma esnasında vurgu ve tonlamaya dikkat edilmelidir.
D) Konuşmalar jest ve mimiklerle desteklenmelidir.

18. - Türkiye'de tarih okuma eğilimi ya da merakı ne düzeyde?
- Yeni nesiller tarih konusunda açık fikirli artık. İspanyolca öğrenen geniş bir kitle var, bunlar tarih inceliyorlar. Arapça ve Farsça üzerine çalışanlar artıyor. Tarih okuma kültürü yavaş yavaş gelişiyor.

Bu metnin türü aşağıdakilerden hangisidir?

- A) Deneme B) Makale
C) Mülakat D) Söylev

19. **Aşağıdakilerin hangisinde bilgi yanlışı vardır?**

- A) Genellikle parlamentolarda, diplomatik toplantılarda, mitinglerde yapılan konuşmalara akademik söylev denir.
B) Mahkemelerde savcı ve avukatların yargılama sırasında savunmak ya da suçlamak amacıyla söyledikleri sözlerle hukuki söylev denir.
C) Orduların moral gücünü yükseltmek ve güven duygusunu artırmak amacıyla yapılan konuşmalara askerî söylev denir.
D) Ekonomik konularda iş adamlarının ve ekonomistlerin yaptığı konuşmalara iktisadi söylev denir.

20. Sözlü anlatım türlerini şöyle sıralayabiliriz: - - - -, - - - -, - - - - .

Bu cümlede boş bırakılan yerlere aşağıdakilerden hangisi getirilemez?

- A) mülakat B) söyleşi
C) söylev D) röportaj

2. OTURUM

(617) SEÇ. DİL VE ANLA. – 7

1. I. Okuyucuya bilgi vermek amacıyla yazılır.
II. Sade ve açık bir dil kullanılır.
III. Dil göndergesel işlevde kullanılır.
IV. Hayallere ve mecazlara yer verilir.
Yukarıdaki numaralanmış bilgilerden hangisi öğretici metinlerin özelliklerinden değildir?
- A) I. B) II. C) III. D) IV.
2. **Aşağıdakilerden hangisi masal türünün bölümlerinden değildir?**
- A) Serim B) Ögüt
C) Çözüm D) Düğüm
3. **Aşağıdakilerden hangisi durum hikâyesinin özelliklerinden değildir?**
- A) Kişisel ve sosyal düşünceler, duygu ve hayaller ön plana çıkar.
B) Merak ögesi ikinci plandadır.
C) Hikâye beklenmedik bir sonla biter.
D) Gerçeklik abartılmadan anlatılır.
4. **Aşağıdakilerden hangisi olay hikâyesinin temsilcilerinden değildir?**
- A) Yakup Kadri Karaosmanoğlu
B) Ömer Seyfettin
C) Sait Faik Abasıyanık
D) Hüseyin Rahmi Gürpınar
5. **Aşağıdakilerden hangisi edebiyatımızın ilk tarihî romanıdır?**
- A) Cezmi B) Araba Sevdası
C) İntibah D) Telemak
6. **Aşağıdaki dizelerin hangisinde benzetme sanatı vardır?**
- A) Şarkın bu sevimli, güzel köyünün Cenneti andıran bir akşamıydı
B) Sandalı çektikçe derin sularda Görürdüm tellerin süründüğünü
C) Mevsimin yağmurlu bir günündeydi, Ufuklar dumanlı, deniz dalgalı.
D) Kayalar, kıyıları kimsesiz dedim. Ne kadar şensiniz yine siz, dedim.

7. **1. Şiir**
Cahil meclisinde satma güheri
Ne bilsin kadrini beyni serseri
Bir münasip söz bul kapat defteri
Mukayyet ol lisanına iyce bak
- 2. Şiir**
Gece
Bir çakıtaşı operasıdır
Kurbağaların söylediği
Sonsuzluğun dudağında
Mavi bir uçuktur gök
- Yukarıdaki iki şiirin karşılaştırılmasıyla ilgili hangisi söylenmez?**
- A) 1. şiir hece, 2. şiir serbest ölçüyle yazılmıştır.
B) Farklı şiir geleneklerine aittir.
C) 1. şiirde ahenk sağlamak için kafiye kullanılırken ikinci şiirde kullanılmamıştır.
D) Nazım birimleri aynıdır.
8. Günler geçiyordu. Bir hafta içinde atlar biraz toparlanmış, tüyleleri düzelmişti. Güneş çıkıyordu arada bir. Kış, gitme hazırlığına başlamış gibiydi. Dört takımılık hava indirme birliği, verilen yeni emir üzerine hazırlıklarını tamamlamıştı. Hava indirme birliğinin komutanlığına Bekbay'ın oğlu Sultanmurat'ın atandığı bildirilmişti. Anatay: "Neden Sultanmurat komutan oluyormuş, belki de biz onu istemiyoruz!" diye karşı çıkmıştı.
- Bu parçada hikâyenin aşağıdaki yapı unsurlarından hangisi belirgin biçimde verilmemiştir?**
- A) Kişi B) Zaman
C) Yer D) Olay
9. Karşılık vermez sesine bir ses
Sesin yankılanır boş duvarlarda
En iyi dostundur puslu aynalar
Dertleşirsin hep anılarında
- Bu dizelerin teması aşağıdakilerden hangisidir?**
- A) Karamsarlık B) Yalnızlık
C) Özlem D) Üzüntü

10. Bir varmış bir yokmuş... Evvel zaman içinde, kalbur saman içinde, develer tellal iken, sinekler berber iken zengin bir tüccar varmış. Mısır'a mal almaya gidiyormuş. Bu adamın üç kızı varmış. Kızlarını çağırıp her birine ne istediklerini sormuş. Büyük kız bir nalın, ortanca kız altın bir hamam taşı, en küçüğü de telli top isterim, demiş.
- Bu parçada, masalın aşağıdaki özelliklerinden hangisine örnek yoktur?**
- A) Tekerlemelere yer verilir.
B) Yer kavramı belirsizdir.
C) Olağanüstülüklere yer verilir.
D) Zaman kavramı belirsizdir.
11. **Aşağıdaki masal – fabl karşılaştırmalarından hangisi doğrudur?**
- A) Fabllarda hayvanlar ve bitkiler konuşturulurken masallarda konuşturulmaz.
B) Masallar doğası gereği "mutlu son" ile biterken fabllarda ise hep kötü son vardır.
C) Masallar genellikle tekerleme ile başlar, fabllar ise tekerleme ile başlamaz.
D) Masallarda yer ve zaman genellikle belirsizken fabllarda belirlidir.
12. **Aşağıdaki halk hikâyelerinden hangisi Türk kaynaklıdır?**
- A) Emrah ile Selvihan
B) Ferhat ile Şirin
C) Leyla ile Mecnun
D) Battal Gazi
13. **Aşağıdakilerden hangisi kahramanlık konulu halk hikâyelerindendir?**
- A) Kerem ile Aslı
B) Arzu ile Kamber
C) Emrah ile Selvihan
D) Danişment Gazi

2. OTURUM

14. Aşağıdakilerin hangisinde hâkim (ilahî) anlatıcının bakış açısı vardır?

- A) Ertesi sabah erkenden fırladım. Derneğimize üç üye bulacaktım. Bu biraz zor olacaktı.
- B) Çoban yere uzandı. Hüznü kalbinden taşacaktı. Eski güzel günleri geldi aklına.
- C) Koca Ali ahıra girdi. Gülbeyaz'ın önüne bir saman yığını koyduktan sonra onu eyerledi.
- D) Hafız Nuri dükkâna erken gelmişti. Etrafı temizledikten sonra kendisine bir çay söyledi.

15. Aşağıdakilerden hangisi komedy türlerinden değildir?

- A) Sokak komedyası
- B) Töre komedyası
- C) Yergi komedyası
- D) Entrika komedyası

16. Dünya edebiyatında fabl türünde ün yapmış yazar aşağıdakilerden hangisidir?

- A) Gustave Flaubert
- B) Emile Zola
- C) Anton Çehov
- D) La Fontaine

17. Manzume ile şiir türünün karşılaştırıldığı aşağıdaki yargıların hangisinde bilgi yanlışı vardır?

- A) Şiirde anlatılanların düzyazıyla ifade edilmesi güçtür, manzumede anlatılanlar ise düzyazı ile ifade edilebilir.
- B) Şiirde sözcükler gerçek anlamda kullanılırken manzumede çok anlamlılık ve imge ağır basmaktadır.
- C) Şiirde bireysellik, duygu ve çağırışım ön plandadır; manzumede yaşanmış ya da yaşanabilecek olaylar işlenir.
- D) Şiirde olay örgüsü yoktur, manzumede vardır.

18. Aşağıdakilerden hangisi klasik Türk şiiri nazım biçimlerinden biri değildir?

- A) Kaside
- B) Sone
- C) Mesnevi
- D) Şarkı

19. Elifim uğru nakışlı
Yavru balaban bakışlı
Yayla çiçeği kokuşlu
Kokar Elif Elif diye

Bu dörtlükte “l” ve “y” seslerinin tekrar edilmesiyle aşağıdaki ahenk unsurlarından hangisi sağlanmıştır?

- A) Aliterasyon
- B) Cinas
- C) Redif
- D) Kafiye

20. Güzel şeyler düşünelim diye
Yemyeşil oluvermiş ağaçlar

Bu dizelerde aşağıdaki söz sanatlarından hangisi vardır?

- A) Tezat
- B) Hüsitalil
- C) Tenasüp
- D) Kinaye

(618) SEÇ. DİL VE ANLA. – 8

1. Aşağıdakilerden hangisi bilimsel yazılar için söylenemez?

- A) Bilimsel buluşları iletme için yazılır.
- B) Yoğun ve kapalı bir anlatımla okura sunulur.
- C) Alanlarında gerekli donanımlara sahip kişilerce yazılır.
- D) Geniş bir araştırmaya dayanır.

2. Aşağıdakilerden hangisi sempozyum bildirisinin bölümlerinden değildir?

- A) Deney
- B) Giriş
- C) Çözüm
- D) Bulgular

3. - Dinleyicilerin konu üzerinde daha aktif düşüncelerini sağlar.
- Bir iş ya da meslekte, bir kurumda çalışan insanların kendi sorunları üzerinde yapılan bir toplantı olarak uygulanmaktadır.

Bu özellikler aşağıdaki sözlü anlatım türlerinin hangisine aittir?

- A) Forum
- B) Sempozyum
- C) Açık oturum
- D) Konferans

4. - - - - , görüş ve karşı görüşün (tez ve antitez) bir hakem kurulu karşısında tartışılması esasına dayanır.

Bu cümlede boş bırakılan yere aşağıdakilerden hangisi getirilmelidir?

- A) Forum
- B) Münazara
- C) Sempozyum
- D) Açık oturum

5. Aşağıdaki türlerin hangisinde grup tartışması yoktur?

- A) Münazara
- B) Açık oturum
- C) Panel
- D) Konferans

6. Bir kitapta veya dergide belli bir konu, yer veya dönemle ilgili yayınları kapsayan bölüme - - - - adı verilir.

Bu cümlede boş bırakılan yere aşağıdakilerden hangisi getirilmelidir?

- A) indeks
- B) dipnot
- C) bibliyografya
- D) dokümantasyon

7. Aşağıdakilerden hangisi bir tartışma konusu olamaz?

- A) Ormanların korunmasında çevre bilinci oluşturmak daha önemlidir.
- B) Sanat sanat için yapılmalıdır.
- C) Eğitim okulda başlar.
- D) Türkiye’de zorunlu eğitim on iki yıldır.

8. Edebiyatımızdaki ilk makale - - - - tarafından - - - - gazetesinde yayımlanmıştır.

Bu cümledeki boşluklara sırasıyla aşağıdakilerden hangisi getirilmelidir?

- A) Şinasi, Ceride-i Havadis
- B) Namık Kemal, Tercüman-ı Ahval
- C) Şinasi, Tercüman-ı Ahval
- D) Ağah Efendi, Tercüman-ı Ahval

2. OTURUM

9. Türk edebiyatını Tanzimat hareketi ile başlatmak millî varlığımıza dar ve yapay bir anlam vermektedir. Divan edebiyatımız, tıpkı halk edebiyatımız gibi bizim eski varlığımız, tahteşuurumuz (şu-uraltı), kaybolmuş cennetimizdir. Tanzimat'ın gayesi ve her inkılabın manası eski varlığın yeni bir hayat bulması değil midir? Divan edebiyatını ruhundan silip süpürmüş olan bir Türk şairinin olgun eser vermesi imkânsızdır.

Bu metnin anlatım türü aşağıdakilerden hangisidir?

- A) Betimleyici anlatım
- B) Destansı anlatım
- C) Tartışmacı anlatım
- D) Öyküleyici anlatım

10. Bir cümlede gereksiz ifadelere yer verilmesi anlatımın duruluk ilkesine aykırı bir durumdur.

Aşağıdaki cümlelerin hangisinde bu açıklama örneklenmiştir?

- A) Arkadaşını karşısında görünce sevinçle kucakladı.
- B) Bu evlerin yapımına geçen yıl başlandı.
- C) Yarın hava tüm yurttan yağmurlu olacakmış.
- D) Şiirdeki lirizm ve coşku beni derinden etkiledi.

11. **Aşağıdakilerin hangisi sözlü anlatım türü değildir?**

- A) Sohbet
- B) Münazara
- C) Konferans
- D) Açık oturum

12. **Aşağıda verilen konuların hangisinde münazara yapılabilir?**

- A) Ormanların korunmasında yasalar mı çevre bilinci mi daha etkilidir?
- B) Tehlikeli atıkların yönetiminde karşılaşılan sorunları belirtiniz.
- C) İklim değişikliği ve olası etkileri nelerdir?
- D) Çevre kirliliğinin önlenmesi için nasıl çözüm yolları bulunmalıdır?

13. Konunun ortaya konması, giriş konuşmasının yapılması, soruların düzenli olarak sorulması, tartışma sırasında meydana gelebilecek tatsız durumların önlenmesi, tartışma sonunda karşıt veya aynı düşünceleri özetleyerek tartışmanın genel değerlendirilmesinin yapılması - - - - görevleri arasındadır.

Bu cümledeki boşluğa aşağıdakilerden hangisi getirilmelidir?

- A) jürinin
- B) konuşmacıların
- C) dinleyicilerin
- D) başkanın

14. **Dinleyicileri bilgilendirmek amacıyla yapılan sözlü anlatımlarda aşağıdaki anlatım türlerinden hangisi en az kullanılır?**

- A) Tartışmacı anlatım
- B) Destansı anlatım
- C) Kanıtlayıcı anlatım
- D) Açıklayıcı anlatım

15. • Belli bir konuyu aydınlatmak için bilim adamı ve araştırmacılar bir araya gelir.
• Bir gün sürebileceği gibi birkaç gün de sürebilir.
• Dinleyiciler davetli olarak bulurlar.

Hakkında bilgi verilen sözlü anlatım türü aşağıdakilerden hangisidir?

- A) Sempozyum
- B) Açık oturum
- C) Forum
- D) Panel

16. **Aşağıdaki dipnot örneklerinden hangisinin yazımı doğrudur?**

- A) Mehmet Kaplan, Dergâh Yayınları, Hikâye Tahlilleri, 10. Baskı, İstanbul 2004.
- B) Mehmet Kaplan, Hikâye Tahlilleri, Dergâh Yayınları, 10. Baskı, İstanbul 2004.
- C) İstanbul 2004, Dergâh Yayınları, Mehmet Kaplan, Hikâye Tahlilleri, 10. Baskı, İstanbul 2004.
- D) Dergâh Yayınları, Hikâye Tahlilleri, Mehmet Kaplan, 10. Baskı, İstanbul 2004.

17. **Aşağıdakilerden hangisi bilimsel yazılarda tercih edilen anlatım türlerinden biri değildir?**

- A) Açıklayıcı
- B) Kanıtlayıcı
- C) Öyküleyici
- D) Öğretici

18. **Aşağıdakilerden hangisi makale türünün özelliklerinden değildir?**

- A) Terimlere, teknik deyimlere yer verilir.
- B) Bilimsel konuların dışına çıkılamaz.
- C) Nesnel verilere sık sık başvurulur.
- D) Ortaya konulan görüş kanıtlarla desteklenir.

19. **Aşağıdakilerden hangisi yazdığı makalelerle Cumhuriyet Dönemi'nin ilk yıllarında dikkati çeken gazetecilerdendir?**

- A) İbrahim Şinasi
- B) Namık Kemal
- C) Falih Rıfkı Atay
- D) Ağâh Efendi

20. Gelişme ve yetişme çağındaki çocukların dil düzeyine, duygu ve düşünce dünyasına, anlama ve kavrama becerilerine seslenen edebiyata "çocuk edebiyatı" diyoruz. Edebiyat, çocuğun zevk ve güzellik duygusunun gelişmesine zemin hazırlar. Çocuk edebiyatı, eğitici yönüyle de öne çıkan bir edebiyattır.

Bu parçada hangi anlatım türünden yararlanılmıştır?

- A) Betimleyici anlatım
- B) Öğretici anlatım
- C) Öyküleyici anlatım
- D) Destansı anlatım

2. OTURUM

(623) SEÇ. TÜRK EDEB. – 3

1. Türklerin en eski "sav" örnekleri aşağıdaki eserlerin hangisinde bulunmaktadır?

- A) Atabet'ül Hakayık
- B) Göktürk Abideleri
- C) Kutadgu Bilig
- D) Divanü Lügati't Türk

2. Edebiyat tarihi ile ilgili olarak aşağıda verilenlerden hangisi yanlıştır?

- A) Sadece şaheserleri inceler.
- B) Diğer bilim dallarından faydalanır.
- C) Medeniyet tarihinin bir koludur.
- D) Bir milletin fikrî ve hissî gelişmelerini inceler.

3. Aşağıdakilerden hangisi Türk edebiyatının ana dönemlere ayrılmasında kullanılan kıstaslardan biri değildir?

- A) Kültürel değişimler
- B) Edebî topluluklar
- C) Dil coğrafyası
- D) Din anlayışı

4. Aşağıdakilerden hangisi Batı Etkisinde Gelişen Türk Edebiyatı'nın bölümlerinden biri değildir?

- A) Klasik Edebiyat
- B) Servetifünun Edebiyatı
- C) Millî Edebiyat
- D) Tanzimat Edebiyatı

5. "Gün, Ay, Yıldız! Tan yönüne sizler varın! Gök, dağ, deniz! Gece batı yönüne sizler varın!" dedi. Ondan sonra üç tanesi tan yönüne, üç tanesi batı yönüne vardı.

Bu parça aşağıdaki hangi destandan alınmıştır?

- A) Ergenekon
- B) Göktürk
- C) Oğuz Kağan
- D) Şu

6. Aşağıdakilerden hangisi Uygur destanı değildir?

- A) Göç
- B) Bozkurt
- C) Türeyiş
- D) Mani Dininin Kabulü

7. "Toplum hayatında iz bırakan tarihî veya sosyal olaylar ve bu olaylar içinde üstün niteliklerle yüceltilmiş efsanevi kahramanlar rol oynar." cümlesi aşağıdaki destan sayfalarının hangisiyle ilgilidir?

- A) Yayılma
- B) Doğuş
- C) Derleme
- D) Yazıya Geçme

8. Aşağıdakilerin hangisi "Batı Etkisinde Gelişen Türk Edebiyatı" içinde yer almaz?

- A) Divan Edebiyatı
- B) Fecriati Edebiyatı
- C) Servetifünun Edebiyatı
- D) Cumhuriyet Dönemi Türk Edebiyatı

9. Aşağıdakilerden hangisi "sagu"nun özelliğidir?

- A) Kopuz eşliğinde söylenir.
- B) Ulusların kahramanlıklarını ele alan manzum eserdir.
- C) Yazılı edebiyat ürünüdür.
- D) İslami Dönem Türk Edebiyatı içinde değerlendirilir.

10. Koşuk hakkında verilen aşağıdaki bilgilerden hangisi yanlıştır?

- A) Dörtlülüklerden oluşur.
- B) Batı kültürünün yapı taşlarından dandır.
- C) Sözlü ürünlerin en yaygınlarından dandır.
- D) Hece ölçüsü kullanılır.

11. "Sagu" için aşağıdakilerden hangisi söylenemez?

- A) Söyleyeni belli değildir.
- B) Sevilen kişilerin ölümüne duyulan üzüntüyü anlatır.
- C) Zengin uyak kullanılır.
- D) Yuğ adı verilen törenlerde söylenir.

12. Aşağıdakilerden hangisi Orhun Yazıtları'nın özelliklerinden biri değildir?

- A) Türk adının geçtiği ilk metindir.
- B) Yazıtlar, Uygur alfabesi ile yazılmıştır.
- C) Türk edebiyatının yazılı ilk metinleridir.
- D) II. Göktürk Devleti zamanında yazılmıştır.

13. Destanlar ile ilgili aşağıda verilen bilgilerden hangisi yanlıştır?

- A) Olağanüstü olaylara yer verilir.
- B) Kahramanlar, üstün nitelikleri olan kişilerdir.
- C) Toplum yaşamından izler bulunur.
- D) Süslü ve ağır bir anlatıma yer verilir.

14. Aşağıdakilerden hangisi İslamiyet Öncesi Türk Edebiyatı'nın Yazılı Dönem özelliklerinden biri değildir?

- A) Göktürk ve Uygur alfabesi kullanılmıştır.
- B) Bilge Kağan adına dikilen yazıt yazılı ürünlerden biridir.
- C) Metinler siyasi, dinî içeriklidir.
- D) İslamiyet Öncesi Dönem'den günümüze yazılı ürün kalmamıştır.

15. Aşağıdakilerden hangisi Orhun Yazıtları üzerinde çalışmamıştır?

- A) Hüseyin Namık Orkun
- B) Talat Tekin
- C) Ahmet Haşim
- D) Muharrem Ergin

16. Halk edebiyatında koşma adı verilen aşk, tabiat konularını işleyen şiirlerin Sözlü Dönem'deki karşılığı aşağıdaki-lerden hangisidir?

- A) Sagu
- B) Sav
- C) Destan
- D) Koşuk

17. Aşağıdakilerin hangisinde doğal destanlar bir arada verilmiştir?

- A) Oğuz Kağan, Ergenekon, Çılgın Orlando
- B) Odyssea, Kalevela, Türeyiş
- C) Oğuz Kağan, İlahi Komediya, Odyssea
- D) Göç, Manas, Kurtarılmış Kudüs

2. OTURUM

18. Türklerin, demircilik sayesinde kurtuluşlarını anlatan Göktürk destanı aşağıdakilerden hangisidir?

- A) Şehname B) Manas
C) Battal Gazi D) Ergenekon

19. Aşağıdakilerden hangisi Türk edebiyatının yaygın olarak kabul gören tarihî dönemlerinden biri değildir?

- A) İslami Dönem Türk Edebiyatı
B) Destan Dönemi Türk Edebiyatı
C) Osmanlı Dönemi Türk Edebiyatı
D) Batı Etkisindeki Türk Edebiyatı

20. Aşağıdakilerden hangisi İslamiyet Öncesi Türk Edebiyatı Sözlü Dönemi'ne ait bir özellik değildir?

- A) Şiirlerde hece ölçüsü kullanılmıştır.
B) Şiirler "şaman, oyun, baksı, ozan" adı verilen sanatçılar tarafından söylenmiştir.
C) Cesaret, aşk, doğa sevgisi işlenen başlıca konulardır.
D) İlk mesnevi ve koşma örnekleri bu dönemde verilmiştir.

(624) SEÇ. TÜRK EDEB. – 4

1. Birçok eserinde çağının sosyal gelişmeleri üzerinde durduğu hâlde, gazellerinde güzellik duygusunu işlemiştir. Gazellerini edebî sanatlarla süsleyen şair, renkli bir anlatıma ulaşmıştır. Kendisinden sonra gelen birçok kişiyi etkileyen sanatçının "İskendername" adlı mesnevisi vardır.

Bu parçada tanıtılan sanatçı aşağıdakilerden hangisidir?

- A) Âşık Paşa
B) Fuzuli
C) Süleyman Çelebi
D) Ahmedi

2. Dede Korkut Hikâyeleri ile ilgili aşağıdakilerden hangisi söylenemez?

- A) On iki hikâyeden oluşmaktadır.
B) Oğuzların kendi içlerinde ve düşmanlarıyla yaptıkları mücadeleler anlatılır.
C) Hikâyeler birbirinden bağımsızdır ve hiç ortak kahraman yoktur.
D) Nesir şeklinde yazılan eserde nazım bölümleri de vardır.

3. Aşağıdakilerden hangisi divan edebiyatının özelliklerinden biri değildir?

- A) Büyük ölçüde Arap ve Fars edebiyatının etkisinde kalmıştır.
B) Şairler söz sanatlarına çokça yer vermişlerdir.
C) Aruz ölçüsü kullanılmıştır.
D) Koşma, semai gibi nazım şekilleri kullanılmıştır.

4. Divan edebiyatında kaside ve hicivleriyle öne çıkan sanatçı aşağıdakilerden hangisidir?

- A) Nedim B) Nef'i
C) Fuzuli D) Baki

5. Aşağıdakilerin hangisi divan edebiyatının süslü nesir sanatçılarından biri değildir?

- A) Veysi B) Evliya Çelebi
C) Âşık Çelebi D) Fatin

6. Aşağıdaki eşleştirmelerden hangisi yanlıştır?

- A) Kutadgu Bilig - Aruzla yazılan ilk eser
B) Hacı Bayram-ı Veli - Yesevilik tarikatının kurucusu
C) Hoca Dehhani - Divan edebiyatının kurucusu
D) Yunus Emre - Tasavvuf edebiyatı

7. Aşağıdakilerden hangisi geleneksel Türk tiyatrosu çeşitlerinden değildir?

- A) Komedi
B) Orta oyunu
C) Karagöz
D) Köy seyirlik oyunu

8. "Danışmendname" ile ilgili olarak aşağıdakilerden hangisi söylenemez?

- A) Düzyazı hâlinde oluşmuş bir eserdir.
B) Aruz ölçüsüyle yazıya geçirilmiştir.
C) Halkın kolay anlayabileceği bir dille yazılmıştır.
D) Danışmend Gazi'nin İslamiyet uğruna verdiği mücadeleler anlatılmaktadır.

9. İlahi türü ile ilgili aşağıdaki verilen bilgilerden hangisi yanlıştır?

- A) Hece ölçüsünün 7'li, 8'li kalıpları kullanılır.
B) Söyleyeni belli değildir.
C) Ezgili bir söyleyişi vardır.
D) Allah, peygamber, din sevgisi anlatılır.

10. Aşağıdaki eserlerden hangisi Kâtip Çelebi'ye ait değildir?

- A) Fezleke B) Cihannuma
C) Dilgüşa D) Keşfu'z Zünun

11. Gazelin ilk beytine matla, son beytine makta denir. Gazelde tek bir konu işleniyorsa beytül gazel, bütün beyitler aynı güzellikte ise yek avaz gazel denir.

IV

Bu parçadaki altı çizili kısımların hangisi yanlış açıklanmıştır?

- A) I. B) II. C) III. D) IV.

12. Aşağıdakilerden hangisi divan edebiyatında dörtlükle yazılan nazım şekillerinden biri değildir?

- A) Kaside B) Tuyuğ
C) Murabba D) Rubai

2. OTURUM

13. Aşağıdakilerden hangisi İslami Dönem'e geçişte görülen ilk eserlerin özelliklerinden biri değildir?

- A) Dinî değerlere bağlılığı anlatmak
- B) Arapça sözcüklere yer vermek
- C) Hakaniye lehçesiyle yazılmış olmak
- D) İslamiyet öncesi şiirin şekil özelliklerini bütünüyle korumak

14. Aşağıdakilerden hangisi mesnevi türünün özelliklerinden biri değildir?

- A) Nazım birimi beyittir.
- B) Uyak düzeni aa/bb/cc ... biçimindedir.
- C) En az 33, en fazla 99 beyitten oluşur.
- D) En uzun nazım biçimidir.

15. Aşağıdakilerden hangisi divan edebiyatının özelliklerinden biridir?

- A) Geniş halk kitlelerine hitap edilir.
- B) İslamiyet öncesi Şamanizm inancının etkisinde gelişmiştir.
- C) Yalın bir dil kullanılır.
- D) Düzyazı; süslü, orta ve sade olmak üzere üçe ayrılır.

16. Eski edebiyatımızda romanın yerini tutan Battalname, Saltukname ve Danişmendname'nin konusu aşağıdakilerden hangisidir?

- A) Aşk
- B) Göç
- C) Ayrılık
- D) Kahramanlık

17. Aşağıdakilerden hangisi orta oyunu oyuncularından biri değildir?

- A) Meddah
- B) Pişekâr
- C) Kavuklu
- D) Zenne

18. XVII. yüzyılın hattat, nakkaş, musikişinaslarından olan ve asıl ününü dünyaca tanınmış "Seyahatname" adlı eseriyile kazanan yazar aşağıdakilerden hangisidir?

- A) Âşık Çelebi
- B) Evliya Çelebi
- C) Kâtip Çelebi
- D) YirmiSekiz Mehmet Çelebi

19. Âşık edebiyatı ile ilgili olarak aşağıdakilerden hangisi söylenemez?

- A) En çok kullanılan nazım şekilleri koşma ve semaidir.
- B) Şiirlerde daha çok yarım uyak tercih edilir.
- C) Nazım birimi beyittir.
- D) Aşk, ayrılık, güzellik, ölüm, tabiat, kahramanlık gibi konular işlenmiştir.

20. Aşağıdakilerden hangisi kasidenin son bölümüdür?

- A) Tegazzül
- B) Medhiye
- C) Fahriye
- D) Dua

(625) SEÇ. TÜRK EDEB. – 5

1. Tanzimat Dönemi'nde gazete ile edebiyatımıza ----, ----, ---- gibi türler girmiştir.

Bu cümlede boş bırakılan yerlere aşağıdakilerden hangisi getirilemez?

- A) fıkra
- B) deneme
- C) makale
- D) destan

2. Aşağıdakilerin hangisinde Tanzimat Birinci Dönemi ile İkinci Dönemi yanlış karşılaştırılmıştır?

- A) Birinci Dönem'de dili sadeleştirme çabası varken İkinci Dönem'de böyle bir çaba yoktur.
- B) Şiirde Birinci Dönem'de aruz, İkinci Dönem'de ise hece ölçüsü kullanılmıştır.
- C) Her iki dönemde de Batı edebiyatından çeviriler yapılmıştır.
- D) Birinci Dönem'de toplumsal, İkinci Dönem'de bireysel konular ele alınmıştır.

3. Aşağıdaki eserlerden hangisi şiir türünde değildir?

- A) Ateşpare
- B) Makber
- C) Sergüzeşt
- D) Vatan Mersiyesi

4. Tanzimat Fermanı 1839'da ilan edilmesine karşın Tanzimat Dönemi edebiyatı 1860'ta ilk özel gazetenin çıkmasıyla başlamış kabul edilir.

Tanzimat Dönemi Edebiyatı'nın adını aldığı Tanzimat Fermanı ile başlamaması aşağıdakilerden hangisiyle açıklanabilir?

- A) Dönem sanatçılarının fermandaki yeniliklere karşı olması
- B) Sosyal, siyasi ve dinî alandaki değişikliklerin edebiyata zamanla yansması
- C) Padişahın edebiyatla ilgili bir talimat vermemesi
- D) Yeni bir edebiyat anlayışı için gazeteye ihtiyaç duyulması

5. Aşağıdakilerden hangisi Tanzimat edebiyatının doğmasında doğrudan etkili olmamıştır?

- A) Avrupa'ya öğrenci gönderilmesi
- B) Batı edebiyatından çeviriler yapılması
- C) Devletin devamlı toprak kaybetmesi
- D) Sosyal ve kültürel alanda birçok değişikliğin olması

6. Aşağıdaki sanatçı - eser eşleştirmelerinden hangisi yanlıştır?

- A) Ziya Paşa - Zafername
- B) Şemsettin Sami - Taaşuk-ı Talat ve Fitnat
- C) Recaizade Mahmut Ekrem - Talim-i Edebiyat
- D) Namık Kemal - Makber

7. Aşağıdakilerden hangisi öğretici metinlerden biridir?

- A) Felâton Bey ile Rakım Efendi
- B) Kadınlar Mektebi
- C) Tercüman-ı Ahval Mukaddimesi
- D) Çok Bilen Çok Yanılır

8. Aşağıdakilerden hangisi Tanzimat Edebiyatı II. Dönem için söylenemez?

- A) Bireysel temalar tercih edilmiştir.
- B) Roman türünde klasisizm etkili olmuştur.
- C) Batılı nazım biçimleri de kullanılmıştır.
- D) Kapalı ve sanatlı anlatım tercih edilmiştir.

2. OTURUM

9. Aşağıdakilerden hangisi Namık Kemal'e ait değildir?

- A) Vatan Yahut Silistre
- B) Akif Bey
- C) Celaleddin Harzemşah
- D) Mai ve Siyah

10. Aşağıdaki Tanzimat Dönemi Türk Edebiyatı sanatçılarından hangisinin tiyatro türünde eseri yoktur?

- A) Şinasi
- B) Namık Kemal
- C) Ziya Paşa
- D) Ahmet Mithat Efendi

11. Aşağıdakilerden hangisi tür bakımından diğerlerinden farklıdır?

- A) Gülnihal
- B) İntibah
- C) Sergüzeşt
- D) Telemak

12. Tanzimat şiiri için aşağıda verilen bilgilerden hangisi yanlıştır?

- A) Aruz ölçüsü tamamen terk edilmiş, hece ölçüsü kullanılmıştır.
- B) Parça güzelliği yerine, konu bütünlüğüne önem verilmiştir.
- C) Günlük hayattaki konular ele alınmaya başlanmıştır.
- D) Batı edebiyatından şiir çevirileri yapılmıştır.

13. Tanzimat roman ve hikâyesi için aşağıdakilerden hangisi söylenemez?

- A) Eserler teknik açıdan başarılıdır.
- B) Yanlış Batılılaşma konusu sıkça ele alınmıştır.
- C) Batı edebiyatından çeviriler yapılmıştır.
- D) Durum hikâyesinin başarılı örnekleri verilmiştir.

14. Aşağıdakilerden hangisi Tanzimat Dönemi'nde Türk edebiyatındaki ilklerden biri değildir?

- A) İlk makalenin yazılması
- B) Aruz ölçüsü ile ilk şiirin yazılması
- C) İlk noktalama işaretlerinin kullanılması
- D) İlk romanın yazılması

15. Aşağıdakilerden hangisi Tanzimat Edebiyatı I. Dönem sanatçılarından biridir?

- A) Recaizade Mahmut Ekrem
- B) Sami Paşazade Sezai
- C) Namık Kemal
- D) Abdülhak Hamit

16. Vatan, millet, özgürlük, adalet gibi kavramlar edebiyatımıza hangi dönemde girmiştir?

- A) Tanzimat
- B) Cumhuriyet
- C) Servetifünun
- D) Fecriyatı

17. "Şiir ve İnşa" isimli makale aşağıdaki yazarlardan hangisi tarafından yazılmıştır?

- A) Şinasi
- B) Ziya Paşa
- C) Namık Kemal
- D) Nabizade Nazım

18. Tanzimat edebiyatı tiyatrosunda komedilerde tercih edilen akım aşağıdakilerden hangisidir?

- A) Romantizm
- B) Klasisizm
- C) Realizm
- D) Sembolizm

19. Eserlerinde romantizmden realizme geçiş açıkça görülür. Betimlemelerinde şairane bir üslup kullanır. Hikâye türündeki "Küçük Şeyler" adlı eseri edebiyatımızda önemli bir yere sahiptir.

Bu parçada tanıtılan sanatçı aşağıdakilerden hangisidir?

- A) Sami Paşazade Sezai
- B) Recaizade Mahmut Ekrem
- C) İbrahim Şinasi
- D) Abdülhak Hamit Tarhan

20. Aşağıdakilerden hangisi Recaizade Mahmut Ekrem'in yazdığı tiyatro eseridir?

- A) Zemzeme
- B) Nijat Ekrem
- C) Afife Anjelik
- D) Takdir-i Elhan

(626) SEÇ. TÜRK EDEB. – 6

1. Aşağıdakilerden hangisi Reşat Nuri Güntekin'in roman türündeki eserlerinden biri değildir?

- A) Çalıkuşu
- B) Yeşil Gece
- C) Yaprak Dökümü
- D) Anadolu Notları

2. Aşağıdakilerin hangisinde Halide Edip Adıvar'ın hatıra türündeki eserleri bir arada verilmiştir?

- A) Ateşten Gömlek – Vurun Kahpeye
- B) Sinekli Bakkal – Sonsuz Panayır
- C) Ateşten Gömlek – Dağa Çıkan Kurt
- D) Mor Salkımlı Ev – Türk'ün Ateşle İmtihani

3. Aşağıdakilerin hangisinde Millî Edebiyat Dönemi'nin öncü sanatçıları bir arada verilmiştir?

- A) Ziya Gökalp, Ömer Seyfettin, Ali Canip Yöntem
- B) Ziya Gökalp, Mehmet Emin Yurdakul, Ahmet Haşim
- C) Fuat Köprülü, Tevfik Fikret, Yakup Kadri Karaosmanoğlu
- D) Ömer Seyfettin, Tahsin Nahit, Halide Edip Adıvar

4. Aşağıdakilerin hangisinde Servetifünun ve Millî Edebiyat Dönemi'nin karşılaştırılması yanlış yapılmıştır?

- A) Servetifünun Dönemi'nde aruz, Millî Edebiyat Dönemi'nde hece ölçüsü kullanılmıştır.
- B) Servetifünun Dönemi'nde sade, Millî Edebiyat Dönemi'nde ağır ve süslü bir dil kullanılmıştır.
- C) Servetifünun Dönemi'nde bireysel, Millî Edebiyat Dönemi'nde toplumsal konular işlenmiştir.
- D) Servetifünun şiirinde Batı ve divan edebiyatı, Millî Edebiyat Dönemi'nde halk edebiyatı etkileri görülür.

2. OTURUM

5. Aşağıdaki eser-sanatçı eşleştirmelerinden hangisi yanlıştır?

- A) Sodom ve Gomore-Yakup Kadri Karaosmanoğlu
- B) Çoban Çeşmesi-Faruk Nafiz Çamlıbel
- C) Göl Saatleri-Ziya Gökalp
- D) Türk Saz Şairleri-Fuat Köprülü

6. Aşağıdakilerden hangisi Millî Edebiyat Dönemi'nin genel özelliklerinden biri değildir?

- A) Konuşma dilinin şiire yerleşmesi gerektiği vurgulanır.
- B) Hikâye ve romanlarda olayların geçtiği yer sadece İstanbul'dur.
- C) Hece ölçüsü kullanılmıştır.
- D) Dilde sadelik esastır.

7. Edebiyatımızın ünlü öykücülerindedir. On yıl kadar süren kısa yazı hayatında yüz yirmiden fazla öykü, iki roman ve makaleler yazdı. Öykülerinin konularını günlük yaşamdaki olaylardan, çocukluk anılarından, tarihten ve folklorlardan aldı. Ulusal edebiyatın, ulusal bir dilden doğacağını savunarak yazılarında yalın bir dil kullandı. "Bomba, Yüksek Ökçeler, Yalnız Efe" eserlerinden bazılarıdır.

Parçada sözü edilen yazar aşağıdakilerden hangisidir?

- A) Ömer Seyfettin
- B) Sait Faik Abasıyanık
- C) Memduh Şevket Esendal
- D) Hüseyin Rahmi Gürpınar

8. Aşağıdakilerden hangisi Servetifünun edebiyatı şiirinin özelliklerinden biridir?

- A) Toplumsal temalar işlenir.
- B) Dilde sadeleşme çabaları görülür.
- C) Aruz ölçüsü kullanılmıştır.
- D) Parça güzelliğine önem verilir.

9. Aşağıdakilerden hangisi Servetifünun Dönemi sanatçılarından biri değildir?

- A) Tevfik Fikret
- B) Muallim Naci
- C) Süleyman Nazif
- D) Halit Ziya Uşaklıgil

10. Servet-i Fünun dergisinde eleştiri türünde yazan sanatçılardandır. Eleştiri yazılarını "Kavgalarım" adlı eserinde toplamıştır.

Bu parçada sözü edilen sanatçı aşağıdakilerden hangisidir?

- A) Mehmet Rauf
- B) Ali Canip Yöntem
- C) Ahmet Vefik Paşa
- D) Hüseyin Cahit Yalçın

11. Türk-Yunan savaşı nedeniyle yazdığı "Cenge Giderken" adlı şiiriyle tanındı. Şiirlerinde hece ölçüsünü kullandı.

Bu parçada söz edilen sanatçı aşağıdakilerden hangisidir?

- A) Yahya Kemal Beyatlı
- B) Halide Edip Adıvar
- C) Yakup Kadri Karaosmanoğlu
- D) Mehmet Emin Yurdakul

12. Aşağıdakilerden hangisi Servetifünun Dönemi'nde görülen edebî akımlardan biri değildir?

- A) Parnasizm
- B) Klasisizm
- C) Realizm
- D) Sembolizm

13. Ahmet Haşim ile ilgili aşağıdakilerden hangisi yanlıştır?

- A) Şiirde musikinin önemine inanmaktadır.
- B) Sembolizm akımının etkisindedir.
- C) Fecriati'nin en önemli şairidir.
- D) Toplumsal temaları işlemiştir.

14. Aşağıdaki eserlerden hangisi Tevfik Fikret'e ait değildir?

- A) Tarih-i Kadim
- B) Haluk'un Defteri
- C) Tamat
- D) Doksan Beşe Doğru

15. Aşağıdaki eserlerden hangisi Servetifünun Dönemi'nde verilen öğretici metinlere örnek gösterilemez?

- A) Kiralık Konak
- B) Hac Yolunda
- C) Kırk Yıl
- D) Avrupa Mektupları

16. "Türkleşmek - İslamlaşmak - Muasırlaşmak" adlı eser, aşağıdaki yazarların hangisine aittir?

- A) Ziya Gökalp
- B) Tevfik Fikret
- C) Faruk Nafiz Çamlıbel
- D) Yakup Kadri Karaosmanoğlu

17. 20. yüzyıl yazarlarımızdandır. Yazı hayatına, Fecriati topluluğunda romantik, realist hikâyeler ve mensur şiir yazarak başladı. Daha sonra deneme, makale, roman, anı türlerinde eserler verdi. Özellikle Tanzimat'tan bu yana geçirdiğimiz siyasal ve sosyal olayları, kuşaklar arasındaki çatışmayı, sosyal değişimleri ve anlayış farklılıklarındaki bunalımları işledi. "Bir Serencam, Yaban, Ankara, Hüküm Gecesi" eserlerinden bazılarıdır.

Bu parçada tanıtılan yazar aşağıdakilerden hangisidir?

- A) Halide Edip Adıvar
- B) Reşat Nuri Güntekin
- C) Faruk Nafiz Çamlıbel
- D) Yakup Kadri Karaosmanoğlu

18. Fecriati'nin "Kuruluş Bildirisi"nin Türk edebiyatındaki önemi aşağıdakilerden hangisidir?

- A) Parça güzelliği yerine bütün güzelliği ön plana çıkmıştır.
- B) Aydın kimselere seslenildiği için ağır bir dil kullanılmıştır.
- C) Türk edebiyatındaki ilk bildiridir.
- D) Konuşma dilinde hiç bulunmayan sözcükler tercih edilmiştir.

19. Aşağıdakilerden hangisi servetifünun edebiyatının genel özelliklerinden biri değildir?

- A) Göz için kafiye anlayışı benimsenmiştir.
- B) Fransız edebiyatından sone ve terzarima gibi nazım biçimleri alınmıştır.
- C) Fayda yerine estetik zevki ön plana çıkarmışlardır.
- D) Şiirde sembolizm ve parnasizmin etkisinde kalınmıştır.

2. OTURUM

20. Tevfik Fikret'in sade bir dille çocuklar için yazdığı şiir kitabı aşağıdakilerden hangisidir?

- A) Rubab-ı Şikeste
- B) Şermin
- C) Haluk'un Defteri
- D) Rubabın Cevabı

(627) SEÇ. TÜRK EDEB. – 7

1. Aşağıdakilerden hangisi Cumhuriyet Dönemi'nde görülen edebî topluluklardan biridir?

- A) Tanzimatçılar
- B) Servetifünuncular
- C) Yeni Lisancılar
- D) Yedi Meşaleciler

2. Aşağıdakilerden hangisi Cumhuriyet Dönemi sanatçılarından biri değildir?

- A) Tevfik Fikret
- B) Cahit Külebi
- C) Ziya Osman Saba
- D) Ahmet Muhip Dıranas

3. Edebiyatımızda ilk örneği "Tercüman-ı Ahval Mukaddimesi" olarak bilinen edebî tür aşağıdakilerden hangisidir?

- A) Deneme
- B) Eleştiri
- C) Makale
- D) Gezi Yazısı

4. Aşağıdakilerden hangisi fıkra türünün özelliklerinden biri değildir?

- A) Makaleye göre daha kısa bir yazı türüdür.
- B) Gazete ve dergilerin yaygınlaşmasıyla gelişim göstermiştir.
- C) Okuru uyarmak ve düşünmeye yöneltmek amacı vardır.
- D) Bilimsel gerçekler ortaya konur.

5. Aşağıdakilerden hangisi gezi yazısının özelliklerinden biri değildir?

- A) Amaç, görülen yerleri tanıtmaktır.
- B) Anlatımı inandırıcı olmalı, düşünce kanıtlanmalıdır.
- C) İlgi çekecek nitelikteki özellikler dile getirilir.
- D) Gezilen yerler uzun betimlemelerle anlatılır.

6. Aşağıdaki eser-yazar eşleştirmelerinden hangisi doğrudur?

- A) Fatih Harbiye - Reşat Nuri Güntekin
- B) Zeliş - Sait Faik Abasıyanık
- C) Çalikuşu - Peyami Safa
- D) Abdullah Efendi'nin Rüyaları - Ahmet Hamdi Tanpınar

7. Oyunlarıyla tiyatromuza büyük katkı yapmıştır. İnsanın içinde bulunduğu durumu ironik bir bakışla değerlendirir. Oyunlarından bazıları şunlardır: Fehim Paşa Konağı, Bir Şehnaz Oyun, Sarıpınar 1914...

Bu parçada tanıtılan sanatçı aşağıdakilerden hangisidir?

- A) Haldun Taner
- B) Turan Ofazoğlu
- C) Melih Cevdet Anday
- D) Turgut Özakman

8. Aşağıdakilerden hangisi Beş Hececiler'in ortak özelliği değildir?

- A) Şiirde hece ölçüsünü kullanmaları
- B) Divan şiiri geleneğinden yararlanmaları
- C) Nazım birimi olarak dörtlük kullanmaları
- D) Şiirde kafiye ve redife yer vermeleri

9. Memleketçi edebiyata tepki olarak ortaya çıktılar. Çıkardıkları ortak kitabın adıyla anıldılar. Topluluğun en güçlü şairi Ziya Osman Saba'dır.

Bu parçada özellikleri verilen topluluk aşağıdakilerden hangisidir?

- A) Yedi Meşaleciler
- B) Maviciler
- C) Garipçiler
- D) Hisarcılar

10. Aşağıdakilerin hangisinde bilgi yanlışlığı vardır?

- A) Asaf Halet Çelebi, şiirlerinde Doğu mistisizmi ile tasavvufu birleştirdi.
- B) Fazıl Hüsnü Dağlarca ilk şiirlerinden sonra hayal ve sembollerle dolu şiirler yazdı.
- C) Cahit Külebi çok derinden duyduğu Anadolu'yu, aşk, hasret ve üzüntülerini anlatan lirik şiirler yazdı.
- D) Behçet Necatigil, şiirlerinde bireyi değil toplumsal yapıyı ele aldı.

11. "Otuz Beş Yaş" şiiri aşağıdaki sanatçılardan hangisine aittir?

- A) Cahit Sıtkı Tarancı
- B) Bedri Rahmi Eyüboğlu
- C) Ahmet Muhip Dıranas
- D) Ömer Bedrettin Uşaklı

12. Aşağıdakilerin hangisinde bilgi yanlışlığı vardır?

- A) Cevat Şakir Kabaağaçlı, eserlerini Halikarnas Balıkcısı takma adıyla yazmıştır.
- B) Yaşar Kemal'in romanlarında tabiat ve insan sevgisi ağır basar, romanı destana yaklaştırır.
- C) Sait Faik Abasıyanık, olay hikâyesinin en önemli temsilcilerinden biridir.
- D) Haldun Taner'in oyunlarında ince ironi ve sanat endişesi göze çarpar.

13. Aşağıdaki sanatçı – eser eşleştirmelerinin hangisi yanlışlıktır?

- A) Refik Erduran – Cengiz Han'ın Bisikleti
- B) Orhan Asena – Gılgamış
- C) Turan Ofazoğlu – Bir Adam Yaratmak
- D) Güngör Dilmen – Midas'ın Kulakları

14. Cumhuriyet Dönemi Türk Edebiyatı'nın başlangıcı için ölçü alınan siyasi gelişme aşağıdakilerden hangisidir?

- A) I. Dünya Savaşı'nın bitmesi
- B) Türk Dil Kurumu'nun açılması
- C) Kurtuluş Savaşı'nın kazanılması
- D) Cumhuriyet'in ilan edilmesi

2. OTURUM

(628) SEÇ. TÜRK EDEB. – 8

15. Aşağıdakilerden hangisi Cumhuriyet Dönemi Türk Edebiyatı'nın genel özelliklerinden biri değildir?

- A) Divan edebiyatının dil özellikleri benimsenmiştir.
- B) Konu ve mekân olarak Anadolu işlenmiştir.
- C) Köy yaşamı eserlerde işlenmiştir.
- D) Yazı ve konuşma dili ayrımı kaldırılmıştır.

16. Aşağıdakilerden hangisi Garip akımının özelliklerinden biri değildir?

- A) Yalın bir dil kullanmak
- B) Ölçülü, uyaklı bir şiir anlayışı oluşturmak
- C) Süsten uzak bir anlatımı tercih etmek
- D) Günlük konuları ele almak

17. Eserlerinde köy gerçeğini değişik boyutlarıyla ele alan iki yazar aşağıdakilerden hangisidir?

- A) Oğuz Atay - Yusuf Atılgan
- B) Yaşar Kemal - Kemal Tahir
- C) Orhan Pamuk - Attila İlhan
- D) Peyami Safa - Ahmet Hamdi Tanpınar

18. Aşağıdakilerden hangisi Orhan Kemal'in eserlerinden biri değildir?

- A) Kardeş Payı
- B) İspinozlar
- C) Evcilik Oyunu
- D) Bekçi Murtaza

19. Faruk Nafiz Çamlıbel'in, Ulukışla yoluyla Kayseri'ye gidişinin izlenimlerinden oluşan, memleketçi şiirin örneklerinden olan eser aşağıdakilerden hangisidir?

- A) Olvido
- B) Han Duvarları
- C) Deniz Hasreti
- D) Otuz Beş Yaş Şiiri

20. Aşağıdakilerden hangisi toplumcu şiirin temsilcilerinden biri değildir?

- A) Rifat Ilgaz
- B) Arif Damar
- C) Ahmet Arif
- D) Oktay Rifat

1. Aşağıdakilerden hangisi Cumhuriyet Dönemi halk şiirinin özelliklerinden değildir?

- A) Nazım birimi olarak dörtlük kullanılmıştır.
- B) Genellikle yarım uyak kullanılmıştır.
- C) Şiirler serbest ölçüyle yazılmıştır.
- D) Doğa güzellikleri, kahramanlık, gurbet, ölüm gibi temalar işlenmiştir.

2. Kardır yağın üstümüze geceden Yağmurla karanlık bir düşünceden Ormanın uğultusuyla birlikte Ve dörtnala dümdüz bir mavilikte Kar yağıyor üstümüze inceden

Bu dizelerle ilgili aşağıdakilerden hangisini söylemek yanlış olur?

- A) 11'li hece ölçüsüyle yazılmıştır.
- B) Redif kullanılmıştır.
- C) Garip şiirinin etkisiyle yazılmıştır.
- D) Doğa güzelliklerinden söz edilmiştir.

3. Aşağıdakilerden hangisi Yahya Kemal Beyatlı'nın edebî özelliklerinden biri değildir?

- A) İstanbul sevgisini ele aldığı şiirleri vardır.
- B) Hikâyelerinde lirik bir anlatım kullanmıştır.
- C) Şiirlerinin çoğunu aruz ölçüsüyle yazmıştır.
- D) Şiirde iç ahenge ve musikiye önem vermiştir.

4. Aşağıdakilerden hangisi "öz şiir" anlayışının özelliklerinden biri değildir?

- A) Sanat, topluma yön verme görevine sahiptir.
- B) Sanat, hiçbir ideolojinin egemenliğinde olmamalıdır.
- C) Sanat, sanat için yapılmalıdır.
- D) Şiir anlaşılmaktan çok duyulmak, hissedilmek için yazılır.

5. Aşağıdakilerden hangisi Garip Hareketi'nin özelliklerinden biridir?

- A) Anadolu ve Anadolu insanı şiirlerde anlatılır.
- B) Yurdun güzellikleri, yurdu kurtarmak için verilen mücadele konu olarak işlenir.
- C) Uyak ve ölçüye karşı çıkılır.
- D) Süslü, söz oyunlarına dayalı bir dil kullanılır.

6. Aşağıdaki eserlerden hangisi Yusuf Atılgan tarafından yazılmıştır?

- A) Havada Bulut
- B) Tutunamayanlar
- C) Anayurt Oteli
- D) Yeni Hayat

7. Aşağıdakilerden hangisi 1980 sonrası şiirin özelliklerinden biri değildir?

- A) Şiirin düzyazıya yaklaştırılması
- B) Şehirli kimliğinin ön planda olması
- C) Yapı ve söyleyişe içerikten fazla önem verilmesi
- D) Millî Edebiyat akımının etkisiyle sadece hece ölçüsünün kullanılması

8. Güzelliğin on par'etmez Bu bendeki aşk olmasa Eğlenecek yer bulaman Gönümdeki köşk olmasa

Bu şiirde işlenen tema aşağıdakilerden hangisidir?

- A) Aşk
- B) Gurbet
- C) Özlem
- D) Yalnızlık

9. İlk şiirlerinde biçim kaygısı ağır basar. Eski şiirle bağıni sesten çok imgeyle kurar ve çağrışımlardan yararlanır. Şiiri; ince buluşların, duygulanımların, yaşanan gerçekliğin, kendine özgü bir söyleyişin toplamıdır. "Üvercinka, Fotoğraf" önemli şiirleri arasındadır.

Bu parçada tanıtılan sanatçı aşağıdakilerden hangisidir?

- A) Turgut Uyar
- B) Edip Cansever
- C) Sezai Karakoç
- D) Cemal Süreya

2. OTURUM

10. Aşağıdakilerden hangisi Cumhuriyet Dönemi halk şairlerinden değildir?

- A) Behçet Necatigil
- B) Şeref Taşlıova
- C) Murat Çobanoğlu
- D) Âşık Veysel

11. Aşağıdakilerden hangisi Türk edebiyatında hikâye türünün önde gelen yazarlarından biri değildir?

- A) Ömer Seyfettin
- B) Sait Faik Abasıyanık
- C) Mehmet Akif Ersoy
- D) Memduh Şevket Esendal

12. “Kara Kitap” aşağıdaki sanatçıların hangisi tarafından yazılmıştır?

- A) Fakir Baykurt
- B) Orhan Pamuk
- C) Oğuz Atay
- D) Enis Batur

13. Aşağıdakilerden hangisi İkinci Yeni şiirinin özelliklerinden biridir?

- A) Bireyci bir şiir anlayışına sahip olmak
- B) Yaşama sevincini ve yaşama hakkını işlemek
- C) Gülmecedan ve şaşırtmacadan yararlanmak
- D) Süslü, söz oyunlarına dayalı bir dil yerine yalın bir dil geliştirmek

14. Aşağıdakilerden hangisi “Kuyucaklı Yusuf” adlı eserin yazarıdır?

- A) Nazlı Eray
- B) Mehmet Günsür
- C) Ayfer Tunç
- D) Sabahattin Ali

15. Aşağıdaki eser-yazar eşleştirmelerinden hangisi yanlıştır?

- A) Divan - Turgut Uyar
- B) Türkiye Şarkısı - İlhan Berk
- C) Uçurumda Açan - Cemal Süreya
- D) Kendi Gök Kubbeimiz - Ece Ayhan

16. Şiirlerinde evler, odalar, sokak, doğa konularını işlemiştir. Ev konusunu çok işlemesi nedeniyle “evler şairi” olarak anılmıştır. Bir anlayışın egemenliğine girmeden kendine özgü bir şiir dünyası kurmuştur. Halk kültüründen aldığı unsurları Batı şiiri ile birleştirmiştir. Radyo oyunları da yazmıştır. “Kapalı Çarşı, Evler, Eski Toprak” eserlerinden bazılarıdır.

Bu parçada tanıtılan sanatçı aşağıdakilerden hangisidir?

- A) Behçet Necatigil
- B) Sezai Karakoç
- C) Cahit Külebi
- D) Asaf Halet Çelebi

17. Trrum

trrum

trrum!

trak tiki tak

Makineleşmek istiyorum

Beynimden, etimden, iskeletimden geliyor bu!

Yukarıdaki dizeler Nazım Hikmet’in hangi edebî akımdan etkilendiğini göstermektedir?

- A) Realizm
- B) Fütürizm
- C) Romantizm
- D) Klasisizm

18. “Havaya Çizilen Dünya” ilk şiir kitabıdır. Halk şiiri geleneğinden modern tarza uzanan geniş bir alandaki biçim özelliklerini denemiştir. Yenilik peşinde koşan, sürekli kendini yenilemeye çalışan biridir. Kurtuluş Savaşı süresince anlattığı “Çakır’ın Destanı, Üç Şehitler Destanı” gibi eserleri nedeniyle “destan şairi” olarak da anılır.

Bu parçada özellikleri tanıtılan sanatçı aşağıdakilerden hangisidir?

- A) Ahmat Hamdi Tanpınar
- B) Fazıl Hüsnü Dağlarca
- C) Asaf Halet Çelebi
- D) Bedri Rahmi Eyüpoğlu

19. Mavi dergisini çıkarmış, Mavici akımın temsilcisi olmuştur. Garip şiirini çok basit, II. Yeni şiirini karışık ve zayıf bularak ikisine de karşı çıkmıştır. Bazen bireyci bazen toplumcu bir çizgide aşk, barış, özgürlük, insan sevgisi gibi konuları işlemiştir. “Tutkunun Günlüğü, Sisler Bulvarı, Ben Sana Mecburum” şiir kitaplarından bazılarıdır.

Bu parçada tanıtılan sanatçı aşağıdakilerden hangisidir?

- A) Attila İlhan
- B) Ahmet Oktay
- C) Hilmi Yavuz
- D) İlhan Geçer

20. Aşağıdakilerden hangisi Necip Fazıl Kısakürek’in işlediği ana temalardan biridir?

- A) Dünyanın güzellikleri
- B) Madde ve ruh problemleri
- C) Batı’ya olan hayranlık
- D) Deniz özlemi

(711) İSLAM TARİHİ – 1

1. • Tövbe edenler anlamına gelir.
• Hz. Hüseyin’i ısrarla Küfe’ye davet etmişler, daha sonra da onu yalnız bırakarak yakınları ile Kerbela’da şehit edilmelerine sebep olmuşlardır.
• Hz. Ali evladının intikamını almak üzere oluşturulan siyasi bir hareket olarak kabul edilirler.

Hakkında kısa bilgi verilen grup, aşağıdakilerden hangisidir?

- A) Tevvabûn
- B) Zeydiyye
- C) Hariciler
- D) Muvahhitler

2. Halife Yezid, Kerbela Olayı’ndan sonra ayaklanan Medinelileri cezalandırmak için ordusunun başına, aşağıdakilerden hangisini getirmiştir?

- A) Yusuf bin Haccac
- B) Müslim bin Ukbe
- C) Müslim bin Âkil
- D) Zeyd bin Ali

2. OTURUM

3. Halife Muaviye, iç istikrarı sağladıktan sonra yeniden fetihlere başlamıştır.

Aşağıdakilerden hangisi Muaviye'nin fetihlerini yoğunlaştırdığı bölgelerden biri değildir?

- A) Irak B) Mısır
C) Suriye D) İspanya

4. Hariciler sorunu, aşağıdaki hangi Emevi halifesi döneminde barışçıl bir yolla çözülmüştür?

- A) I. Velit Abdülmelik
B) Ömer bin Abdülaziz
C) Hişam bin Abdülmelik
D) Abdülmelik bin Mervan

5. Endülüs Emevi Devleti'nin 976 - 1008 yılları arasındaki dönemine ne ad verilir?

- A) Âmirîler Dönemi
B) Emirlik Dönemi
C) Valiler Dönemi
D) Fetret Dönemi

6. Aşağıdakilerden hangisi Hz. Muhammed Dönemi'nde gerçekleşmiştir?

- A) Kur'an'ın toplanması
B) Cemel Vakası
C) Kerbela Olayı
D) Hicret

7. "Fetretü'l Vahiy Dönemi", aşağıdaki hangi surenin ilk beş ayetinin inmesiyle sona ermiştir?

- A) Müddesir B) Enbiyâ
C) Bakara D) Alak

8. Kureyş kabilesi içindeki hangi boylar arasındaki rekabet, birçok insanın Müslüman olmasını geciktirmiştir?

- A) Adiyogulları ile Teymoğulları
B) Haşimioğulları ile Ümeyyeoğulları
C) Adnanoğulları ile Haşimioğulları
D) Abdulmanafoğulları ile Adnanoğulları

9. Hz. Muhammed'in peygamberliğinin kaçınıcı yılında Hamza ve Ömer Müslüman olmuşlardır?

- A) 1. B) 3. C) 6. D) 11.

10. İslam tarihinin ilk savaşı, aşağıdakilerden hangisidir?

- A) Uhut B) Bedir
C) Hendek D) Talas

11. Hz. Muhammed'in son seferi, aşağıdakilerden hangisidir?

- A) Tebük B) Taif
C) Mekke D) Hayber

12. Hz. Ebu Bekir Dönemi'nde Kur'an-ı Kerim'in özgün hâlinin korunması amacıyla, aşağıdakilerden hangisi yapılmıştır?

- A) Kur'an-ı Kerim cem edilmiştir.
B) Kur'an ayetleri deri parçaları üzerine yazılmıştır.
C) Kur'an-ı Kerim çoğaltılarak valiliklere gönderilmiştir.
D) Kur'an-ı Kerim ayetlerinin tüm Müslümanlardan ezberlenmesi istenmiştir.

13. Kıbrıs Adası, hangi halife döneminde İslam egemenliğine girmiştir?

- A) Hz. Ali B) Hz. Ebu Bekir
C) Hz. Ömer D) Hz. Osman

14. Cemel Olayı'nda Hz. Ali, aşağıdakilerden hangisiyle savaşmıştır?

- A) Abdullah bin Zübeyr
B) Hz. Muaviye
C) Hz. Aişe
D) Hz. Osman

15. Aşağıdakilerden hangisi "Birlik Yılı" ile ilgili doğru bir bilgi değildir?

- A) Birlik Yılı'na Âmü'l - Cema'a'da denir.
B) İslam Devleti'nin kuruluşundan yaklaşık 40 yıl sonra yaşanmıştır.
C) Hz. Muaviye ile Hz. Ali arasında yaşanan Siffin Olayı ile ilişkilidir.
D) Hz. Hasan'ın, Muaviye'nin hali-feliğini tanınmasıyla oluşan dostluk ortamına verilen isimdir.

16. "Zaman, başı ve sonu olmayan bir şeydir. Fakat insan zamanı birimlemeyi istedi. Bu konuda en iyi vasıta olarak - - - - seçti."

Muhammed Hamidullah
İslam Tarihine Giriş, s.17

Muhammed Hamidullah'ın vermiş olduğu bilgideki eksiklik, aşağıdakilerden hangisiyle giderilebilir?

- A) Ay'ı
B) Güneş'i
C) İsa'nın doğumunu
D) Kavimler Göçü'nü

17. Siffin Vakası boyunca ortaya çıkan olayları ve bunların arka planlarını, aşağıdaki hangi ilahiyatla ilgili bilim dalı inceler?

- A) Siyer
B) Hadis
C) Meğazi
D) Mezhepler Tarihi

18. Arap Yarımadası'nın İslam Dönemi'nde olduğu gibi İslamiyet öncesi dönemde de kutsal sayılan bölgesi, aşağıdakilerden hangisidir?

- A) Necit B) Hicaz
C) Yemen D) Hadramut

19. Müşriklerin, aşağıdaki hangi konudaki ısrarcılığından dolayı Kur'an-ı Kerim'deki Casiye Suresi'nin "Dediler ki: Hayat ancak bu dünyada yaşadığımızdır. Ölürüz ve yaşarız. Bizi ancak zaman helâk eder..." mealindeki ayeti nazil olmuştur?

- A) Çok eşlilik
B) Yıldızlara tapma
C) Ahiret hayatına inanmama
D) Kız çocuklarını diri diri gömme

20. Dedesinin vefatı üzerine Hz. Muhammed'i himayesi altına alan kişi, aşağıdakilerden hangisidir?

- A) Annesi Âmine
B) Sütannesi Halime
C) Amcası Ebu Talip
D) Amcası Ebu Cehil

2. OTURUM

(712) İSLAM TARİHİ – 2

1. Aşağıdaki devletlerden hangisinin resmî dili Farsçadır?

- A) Lübnan B) Yemen
C) Irak D) İran

2. • Britanya egemenliği altındaki Hindistan'da yaşayan Müslümanların haklarını savunmak amacıyla kurulan siyasal bir topluluktur.
• Bu parti Pakistan'ın bağımsızlığına giden yolda büyük rol oynamıştır.

Hakkında kısa bilgi verilen siyasal parti, aşağıdakilerden hangisidir?

- A) İmamlar Kurulu
B) Filistin Kurtuluş Örgütü
C) Müslümanlar Birliği Partisi
D) Avustralya Müslüman Öğrenciler Federasyonu

3. Bangladeş Devleti'nin kurulmasında rol oynayan devlet, aşağıdakilerden hangisidir?

- A) Doğu Pakistan
B) Afganistan
C) Endonezya
D) Malezya

4. Masallardaki "Kaf Dağı", aşağıdaki dağlardan hangisidir?

- A) Türkiye'deki Ağrı Dağı
B) Türkmenistan'daki Kopet Dağı
C) İtalya'daki Monte Bianco Dağı
D) Tanzanya'daki Kilimanjaro Dağı

5. Dünya petrol üretiminin kaçta kaçını İslam dünyası karşılar?

- A) % 93'ünü B) % 70'ini
C) % 65'ini D) % 61'ini

6. Aşağıdaki devletlerden hangisinin yaptırdığı mimari eserler daha çok Bursa, Edirne, İstanbul ve Balkanlardaki şehirlerde yoğunlaşmıştır?

- A) Memlûk B) Selçuklu
C) Osmanlı D) Karahanlı

7. Abbasi iktidarını endişeye düşüren;

- I. Zenciler Ayaklanması
II. Harici isyanları
III. Babek başkaldırısı

gibi olayların hangileri, Türk askerlerinden kurulu ordularca bastırılmıştır?

- A) Yalnız I B) Yalnız II
C) Yalnız III D) I, II ve III

8. • 1730 - 1790 yılları arasında Osmanlıda yaşamış Türk matematikçisidir.
• Mühendishane-i Bahri-i Hümayunda matematik dersleri vermiştir.
• Kâğıthane'de düzenlenen bir topçu atış uygulamasında, atışlardaki açı yanlışlarını matematiksel yöntemle düzelttiği için dönemin padişahı III. Selim tarafından Yenişehir Fener Mollalığına getirilmiştir.
• Logaritma ve trigonometri alanlarındaki çalışmaları ile tanınır.

Hakkında kısa bilgi verilen bilim insanı, aşağıdakilerden hangisidir?

- A) Hacı Paşa
B) İsmail Gelenbevi
C) Lagari Hasan Çelebi
D) Kınalızade Ali Çelebi

9. 12. yüzyılın ortalarından itibaren Anadolu'ya gelen gezici mutasavvıfların çoğu, aşağıdakilerden hangisinin öğrencileri idi?

- A) Muhammed bin Kays
B) Yükneklî Edip Ahmet
C) Mahmut Zemaşerî
D) Hoca Ahmet Yesevi

10. Aşağıdaki Anadolu Selçuklu hükümdarlarından hangisi, Gürcü asıllı Hristiyan eşi için sarayına kilise yaptırmıştır?

- A) II. Gıyaseddin Keyhüsrev
B) I. İzzeddin Keykâvus
C) I. Alaeddin Keykubat
D) II. Kılıç Arslan

11. Aşağıdaki devletlerden hangisi ismini "kurulduğu şehirden" almıştır?

- A) Karahanlı Devleti
B) Osmanlı Devleti
C) Gazne Devleti
D) Babür Devleti

12. Arap olmayan Müslümanların savaşlarda elde edilen ganimetlerden Araplara göre daha az pay almasına son veren Emevi halifesi, aşağıdakilerden hangisidir?

- A) İbrahim bin Velid
B) Ömer bin Abdülaziz
C) Hişam bin Abdülmelik
D) Süleyman bin Abdülmelik

13. Aşağıdakilerden hangisi Haçlı Seferleri'nin ekonomik nedenlerinden biridir?

- A) Avrupa'da toprak sahibi olmayan kimselerin toprak sahibi olmak istemeleri
B) Papa ve din adamlarının nüfuzlarını artırmak istemeleri
C) Avrupalıların Türkleri Anadolu'dan çıkarma arzuları
D) Şövalyelerin macera aramaları

14. Osmanlı Devleti, Hindistan'da Gucerat ve Kaliküt'teki Müslümanların yardım isteği üzerine donanmasını, aşağıdaki hangi sadrazamının komutasında onlara göndermiştir?

- A) Çandarlı Ali Paşa
B) Hadım Süleyman Paşa
C) Köprülü Fazıl Ahmet Paşa
D) Merzifonlu Kara Mehmet Paşa

15. Ecyat Kalesi'ni Osmanlılar, aşağıdaki yerlerden hangisini korumak amacıyla inşa etmişlerdir?

- A) İstanbul B) Kudüs
C) Kâbe D) Şam

2. OTURUM

(931) SİYER – 1

16. İslam tarihinde önemli bir yeri olan Talas Savaşı, aşağıdaki devletlerden hangileri arasında olmuştur?

- A) Türk - Çin
- B) Arap - Çin
- C) Türk - Arap
- D) Bizans - Arap

17. İslam dünyasında Emevilerin yıkılmasından sonra Abbasilerin kurulması Türkler açısından, aşağıdaki gelişmelerin hangisine sebep olduğu söylenemez?

- A) Halifelik Türk soyuna geçmiştir.
- B) Türklerin İslam dinine hizmetleri artmıştır.
- C) Türkler arasında İslamiyet hızla yayılmıştır.
- D) İslamiyet'in en büyük koruyucusu Türkler olmuştur.

18. Müslüman Araplarla Türkler arasında ilk ciddi çatışmaların meydana geldiği yıl, aşağıdakilerden hangisidir?

- A) 621
- B) 635
- C) 644
- D) 653

19. İslam öncesinde Türkler, aşağıdakilerden hangisini "Ulu gün" şeklinde isimlendirmişlerdir?

- A) Cihat
- B) Kıyamet
- C) Cennet
- D) Cehennem

20. Selden dolayı duvarları yıkılan Kâbe, aşağıdaki hangi Osmanlı padişahı döneminde tümünden yenilenmiştir?

- A) I. Selim
- B) IV. Murat
- C) I. Süleyman
- D) II. Abdülhamit

1. Hz. Muhammed (sav.)'e hicrette yardım eden kişiler ve yaptıkları hizmetler düşünüldüğünde aşağıdaki eşleştirmelerden hangisi yanlıştır?

- A) Hz. Abbas- Kılavuzluk
- B) Hz. Ali-Müşrikleri oyalama
- C) Hz. Ebu Bekir'in kölesi-Erzak temini
- D) Hz. Ebu Bekir'in oğlu- Bilgi toplama

2. Hz. Muhammed (sav.) Taif yolculuğu dönüşünde Mekke'ye kimin himayesinde girmiştir?

- A) Ebu Talib
- B) Hz. Hamza
- C) Hz. Ebu Bekir
- D) Mutim b. Adiy

3. Aşağıdakilerden hangisi Hz. Muhammed'in (sav.) yaşadığı Hicaz bölgesinde yer alan şehirlerden değildir?

- A) Mekke
- B) Medine
- C) Tebük
- D) Taif

4. Aşağıdakilerden hangisi Hz. Peygamber'in kızlarının isimlerinden biri değildir?

- A) Rukiye
- B) Aişe
- C) Zeynep
- D) Ümmü Gülsüm

5. Arap toplumunda yerleşik yaşam sürenlere ne ad verilir?

- A) Bedevî
- B) Kıptî
- C) Hadarî
- D) Mağribî

6. Peygamberimiz aşağıdakilerden hangisinin himayesinde kalmamıştır?

- A) Abdülmuttalip
- B) Hz. Ebubekir
- C) Ebu Talip
- D) Amine

7. Aşağıdakilerden hangisi ilk dönem tarihçilerinden değildir?

- A) İbn Kayyim
- B) İbn İshak
- C) İbn Hişam
- D) İbn Sa'd

8. "Arab-ı müsta'ribe" hakkında aşağıda verilen bilgilerden hangisi yanlıştır?

- A) Bu gruba Adnanîler de denilmektedir.
- B) Kureyş kabilesi de bu gruptandır.
- C) Nesli yok olmuş Araplardır.
- D) Sonradan Araplaşan kabilelerdir.

9. İlk vahyin gelmesinden sonra Hz. Muhammed ve Hz. Hatice bu olaylar hakkında fikrini almak için aşağıdakilerden hangisine gitmiştir?

- A) Sa'd b. Bekir
- B) Varaka b. Nevfel
- C) Abdullah b. Cüdan
- D) Vehb b. Abdümenaf

10. Aşağıdakilerden hangisi Hz. Muhammed'in (sav.) peygamber olmadan önce ticaretle uğraşmasının sonuçlarından biri değildir?

- A) Alış-veriş usulleri hakkında bilgi sahibi olmuştur.
- B) Diğer dinlere ait kitapları okuyup incelemiştir.
- C) Farklı kültürleri tanıma fırsatı elde etmiştir.
- D) İnsanlarla iletişim kurma becerisini geliştirmiştir.

11. Hz. Muhammed (sav.)'in kendisinden sonra vefat eden çocuğu hangisidir?

- A) Hz. Fatıma
- B) Hz. İbrahim
- C) Hz. Abdullah
- D) Hz. Ümmü Gülsüm

12. Dâruerkam ile ilgili aşağıda verilen bilgilerden hangisi doğrudur?

- A) Müşriklerin toplandıkları mekânın adıdır.
- B) Boykot döneminde Müslümanların sığındığı mahalledir.
- C) Davet dönemi başlarında Müslümanların toplandığı evdir.
- D) Habeşistan'a hicret eden Müslümanların yaşadığı bölgedir.

2. OTURUM

13. Mekkeli müşriklerin Hz. Peygamber'e yönelttikleri teklifler arasında aşağıdakilerden hangisi yoktur?
- A) Kendisini Mekke'ye lider yapmak
B) O'na maddi imkânlar sağlamak
C) Bir yıl putlara bir yıl da Allah'a ibadet etmek
D) İnancını serbestçe yaşamasına izin vermek
14. Mekkeli müşriklerin peygamberliğe Velid b. Muğire ya da Ebu Mesud'u layık görmelelerinin sebebi aşağıdakilerden hangisidir?
- A) Zengin ve çok erkek çocuk sahibi olmaları
B) Yaşları itibarıyla daha uygun olmaları
C) Hicaz bölgesinde yaşıyor olmaları
D) Arapların tanıdığı kişiler olmaları
15. Habeşistan'ın hicret yeri olarak seçilmesinde aşağıdakilerden hangisinin etkisi olmamıştır?
- A) Hükümdarının adil oluşunun
B) Halkının Hristiyan olmasının
C) Müslümanların davet edilmesinin
D) Hz. Peygamber tarafından tavsiye edilmiş olmasının
16. Hz. Peygamber Akabe Görüşmesi'ni aşağıdakilerden hangisi ile yapmıştır?
- A) Taifli müşrikler
B) Medineli Yahudiler
C) Mekkeli müşrikler
D) Medineli altı kişilik grup
17. Aşağıdakilerden hangisi Hz. Muhammed (sav.)'in Taif yolculuğunun amaçlarından biridir?
- A) Babasının mezarını ziyaret etmek
B) Mekke dışında da İslam'ı yaymak
C) Ticari ilişkileri geliştirmek
D) Bölge halkıyla tanışmak

18. Aşağıdakilerden hangisi Hz. Muhammed'in (sav.) doğduğu ortamın özelliklerindedir?
- A) Okuma-yazma oranı yüksekti.
B) Haniflik yaygın olan inanç biçimiydi.
C) Kadın ve kız çocuklarına değer verilirdi.
D) Edebiyat ve güzel söz söyleme sanatı gelişmişti.
19. "...Üzülme, çünkü Allah bizimdir..." (Tevbe suresi, 40. ayet) "İki yoldaş ki üçüncüsü Allah' tır, hiç endişe edilir mi?" (Hadis-i şerif) Verilen ayet ve hadis aşağıdaki olaylardan hangisi ile ilgilidir?
- A) İsra ve Miraç
B) Akabe Biatları
C) Medine'ye hicret
D) Habeşistan'a hicret
20. Her şeyin yaratıcısının Allah olduğuna inanmasına rağmen putları O'na eş tutan kimselere ne denir?
- A) Müşrik
B) Münafık
C) Mü'min
D) Kafir

(932) SİYER – 2

1. Hz. Peygamber'in konuşma üslubu ile ilgili aşağıdaki bilgilerden hangisi yanlıştır?
- A) Kötülükleri onaylamazdı.
B) Muhatabın seviyesini dikkate alırdı.
C) Önemli gördüğü konuları tekrar ederdi.
D) Kişisel hatalarda bireyin ismini zikrederdi.
2. Hz. Peygamberin aşağıdaki davranışlarından hangisi Müslümanlar tarafından öncelikli olarak örnek alınmalıdır?
- A) Kişisel tercihleri
B) Ahlaki özellikleri
C) Kullandığı teknoloji
D) Uyguladığı görenekler

3. Aşağıdakilerden hangisi Hz. Peygamber döneminde namaza çağrının nasıl olması gerektiğine dair ileri sürülen görüşlerden değildir?
- A) Ateş yakmak
B) Davul çalmak
C) Bayrak çekmek
D) Çan veya boru çalmak
4. Müslümanların ilk kiblesi aşağıdakilerden hangisidir?
- A) Mescid-i Aksa
B) Mescid-i Haram
C) Mescid-i Nebevi
D) Mescid-i Kibleteyn
5. Ramazan orucu ne zaman farz kılınmıştır?
- A) Medine'ye hicretten altı ay kadar sonra
B) Bedir Savaşı'ndan bir ay kadar önce
C) Uhud Savaşı'ndan hemen sonra
D) Hudeybiye Barış Antlaşması esnasında
6. İslam'a göre aşağıdakilerden hangisi savaşın meşru kabul edildiği durumlar arasında yer almaz?
- A) İslam devletini güvence altına almak
B) İnsan hakları ve din hürriyetini korumak
C) İslam ülkesinin sınırlarını genişletmek
D) Antlaşmaları bozanları ve hainlik yapanları cezalandırmak
7. Aşağıdaki askeri olaylardan hangisi "gazve" niteliğinde değildir?
- A) Mute Savaşı
B) Tebuk Seferi
C) Hayber'in Fethi
D) Mekke'nin Fethi

2. OTURUM

8. Aşağıdaki Mekkeli liderlerden hangisi Bedir Savaşı'nda öldürülmüştür?

- A) Ebu Cehil
- B) Ebu Leheb
- C) Ebu Süfyan
- D) Velid b. Mugire

9. Aşağıdaki kabilelerden hangisi Bedir Savaşı'ndan sonra Medine'yi terketmek zorunda kalmıştır?

- A) Harisoğulları
- B) Nadiroğulları
- C) Kureyzoğulları
- D) Kaynukaoğulları

10. Aşağıdakilerden hangisi Uhud Savaşı'nın sonuçlarından değildir?

- A) Müşriklerden yirmi iki kişi öldü.
- B) Medineli Müslümanlar kısa süreli güvenlik tehlikesi atlattı.
- C) Hz. Hamza şehit oldu.
- D) Mekkeli müşriklerin her türlü saldırıganlıkları sona erdi.

11. Aşağıdakilerden hangisi Uhud Savaşı'na katılmamıştır?

- A) Abdullah b. Ümmü Mektûm
- B) Abdullah b. Cübeyr
- C) Musab b. Umeyr
- D) Ebu Süfyan

12. Hendek Savaşı'ndaki ihaneti nedeniyle Medine'den sürülen kabile hangisidir?

- A) Beni Kaynuka
- B) Beni Kureyza
- C) Beni Nadir
- D) Beni Bekir

13. Huneyn Savaşı'nda yenilen düşman ordusunun komutanı Malik b. Avf'ın kendilerine sığınması sebebiyle Müslümanlar tarafından kuşatılan fakat teslim alınmayan bölge hangisidir?

- A) Tebük
- B) Mute
- C) Taif
- D) Hayber

14. "...Hani çokluğunuz size kendinizi beğendirmiş, fakat sizi hezime-te uğramaktan kurtaramamıştı. Yeryüzü bütün genişliğine rağmen size dar gelmişti, sonunda (bozularak) gerisin geri dönmüştünüz." (Tevbe suresi, 25. ayet)

Ayette bahsedilen olay aşağıdakilerden hangisidir?

- A) Mekke'nin fethi
- B) Huneyn Savaşı
- C) Uhud savaşı
- D) Tebük Seferi

15. Hz. Peygamber ile ilgili aşağıda verilen bilgilerden hangisi yanlıştır?

- A) Mekke'de vefat etmiştir.
- B) Cenazesini Hz. Ali yıkamıştır.
- C) Vefat ettiği yere defnedilmiştir.
- D) Kabri Mescid-i Nebevi'de yer almaktadır.

16. Hz. Peygamber (sav.) ile ilgili aşağıdaki bilgilerden hangisi doğrudur?

- A) Allah'ın kulu ve elçisidir.
- B) İnsanüstü sıfatlara sahiptir.
- C) Sadece Araplara gönderilmiştir.
- D) Allah'a karşı sorumluluğu yoktur.

17. Aşağıdakilerden hangisi Medine Sözleşmesi'nin yapılış nedenlerinden değildir?

- A) Medine'de idarî birliği sağlamak
- B) Müslümanlara ekonomik destek sağlamak
- C) Şehrin savunması sağlamak
- D) Müslümanların güvenliğini sağlamak

18. "(Resûlüm!) Onlar iman etmiyorlar diye neredeyse kendine kıyacaksn!" (Şuarâ suresi, 3. ayet)

Bu ayette Hz. Muhammed (sav.)'in aşağıdaki özelliklerinden hangisi vurgulanmıştır?

- A) Adaleti
- B) Cömertliği
- C) Merhameti
- D) Alçakgönüllülüğü

19. Hz. Aişe, Hz. Peygamber'i kastederek "O, iki şey arasında tercih yapma durumunda kaldığında, günah olmadığı sürece, - - - olanını seçerdi." buyurmuştur.

Bu cümlede boş bırakılan yere aşağıdakilerden hangisi getirilmelidir?

- A) zahmetli
- B) güç
- C) kolay
- D) mubah

20. Medine Dönemi'nde devlet işlerinin görüldüğü yer aşağıdakilerden hangisidir?

- A) Daru'l- Erkan
- B) Daru'n-Nedve
- C) Mescid-i Haram
- D) Mescid-i Nebevi

(974) GİRİŞİMCİLİK – 1

1. Aşağıda verilen etmenlerden hangisi bir işletmenin dış çevresinde yer alır?

- A) Üretim
- B) Personel
- C) İş gücü
- D) Finans

2. Daha önceden üretilip, üretimde kullanılabilen ve tüm değerleri kapsayan üretim faktörü aşağıdakilerden hangisidir?

- A) Sermaye
- B) Emek
- C) Tabiat
- D) Müteşebbis

3. Bir tekstil fabrikasının pamuğun çok yetiştirdiği yerlerde kurulması, müteşebbisliğin bir ekonomik kaynak olduğunu gösteren aşağıdaki işlevlerden hangisine örnektir?

- A) İstihdam yaratır.
- B) Ürün kalitesini artırmaya çalışır.
- C) Yer ve zaman faydası sağlar.
- D) Üretimi organize eder ve yürütür.

4. Girişimcilerin işletme kurma sürecinde, aşağıdakilerden hangisi sürecin başlangıç aşamasında yapılması gereklidir?

- A) Fizibilite
- B) Ön Proje
- C) Deneme Üretimi
- D) Yatırım kararı verme

2. OTURUM

5. Bir işletmenin kuruluş sürecinde, projenin niteliğine göre kuruluş ve konum yeri durumu, fabrika binası, üretim teçhizatı, güvenlik araştırması, doğal afet ve çevre kirliliği gibi konularda yapılan araştırma türü aşağıdakilerden hangisidir?
- A) Ekonomik araştırma
B) Teknik araştırma
C) Mali araştırma
D) Yasal araştırma
6. Aşağıdakilerden hangisi planlamada uyulacak kural olarak görülmez?
- A) Uygun bir süreyi kapsamalıdır.
B) Kesin uygulanabilir olmalıdır.
C) Basit ve anlaşılır olmalıdır.
D) Dengeli olmalıdır.
7. Maslow'un ihtiyaçlar hiyerarşisine göre bir insanın "sevgi ve ait olma" ihtiyaçlarından sonra ortaya çıkacak ihtiyaçları aşağıdakilerden hangisidir?
- A) Saygı
B) Güvenlik
C) Başarma
D) Fizyolojik
8. Üretim yönetimi dönüşüm sürecinde, aşağıdakilerden hangisi girdi olarak kabul edilmez?
- A) Emek
B) Sermaye
C) Hizmetler
D) Girişimci
9. Aşağıdakilerden hangisi, bir ürünün yaşam eğrisi dönemine ait değildir?
- A) Gerileme
B) Tanıma süreci
C) Üretilme süreci
D) Doygunluk dönemi
10. "Kalem, kağıt, çivi, yağ" gibi üretim mallarının sınıflandırılması aşağıdakilerden hangisidir?
- A) Yardımcı araçlar
B) İşletme gereçleri
C) Yatırım donatım malları
D) Üretim gereçleri ve parçaları
11. Ekonomik durumu üst düzeyde olan insanların karşılanmasını istedikleri ihtiyaçlara ne ad verilir?
- A) Emek
B) Sermaye
C) Lüks ihtiyaçlar
D) Zorunlu ihtiyaçlar
12. Aşağıdakilerden hangisi üretim faktörlerinden biridir?
- A) Doğa
B) Talep
C) Hizmet
D) Kültür
13. Elektronik ticarete ne ad verilir?
- A) İnternet
B) E-ticaret
C) E-devlet
D) E-posta
14. Ekonomistler, bir mal veya hizmeti elde edebilme isteğini neden talep olarak kabul etmezler?
- A) İstekler yeterli satın alma gücüyle desteklenmelidir.
B) Arz - talep dengesi korunmalıdır.
C) Alıcı ile satıcı birbirini tanımalıdır.
D) Satın alma sürekli ve güdüleyici olmalıdır.
15. Ekonomistler kıt malı nasıl tanımlamışlardır?
- A) Kıymetli mallar
B) Piyasada olmayan mallar
C) Çok pahalı satılan mallar
D) Fiyatı olan ve bedelini ödemek suretiyle alınabilen mallar
16. Bazı bilim adamlarınca girişimcilik kavramının yaratıcısı olarak görülen ünlü ekonomist, aşağıdakilerden hangisidir?
- A) John Law
B) Eli Whitney
C) Richard Cantillon
D) Edward Harriman
17. "Girişimcilik; sürekli artan bir refah yaratan dinamik bir süreçtir."
"Girişimcilik; bir işe girişme, bunun için gerekli kaynakları düzenleme, işten doğacak riskleri ve başarısızlıkları üstlenme sürecidir."
"Girişimcilik; parasal ve kişisel tatmin ödülü karşılığında, finansal, psikolojik ve sosyal riskleri üstlenerek gerekli zaman ve çabayı harcayıp farklı değerinde mal ve hizmet yaratma sürecidir."
Aşağıdakilerden hangisi, verilen "Girişimcilik" kavramıyla ilgili tanımların ortak noktalarından biri değildir?
- A) Tekelleşmek
B) İniyatif sahibi olmak
C) Risk ve başarısızlığı kabul etmek
D) Piyasadaki kaynakları değerlendirmek
18. "Yasal teşviklerden yararlanarak arkadaşlarıyla pastane dükkanı açan Leyla hanım" örneğini, aşağıdaki girişimciliği teşvik eden faktörlerden hangisi için verebiliriz?
- A) Mevzuat
B) Güven
C) Aile
D) Din
19. Aşağıdakilerden hangisi, girişimcide bulunması gereken kişisel özelliklerinden biri değildir?
- A) Hayalcilik
B) Kendine güven
C) Karamsarlık
D) Esneklik
20. Aşağıdaki kavramlardan hangisi ekonomi literatüründe "yenilenme", "yenilik" anlamlarında kullanılır?
- A) Deflasyon
B) İnovasyon
C) İthal ikamesi
D) Devalüasyon

2. OTURUM

(975) GİRİŞİMCİLİK – 2

1. Mal ve hizmet üretiminde kullanılan bedensel ve zihinsel çabaların tümüne ne ad verilir?

- A) Tabiat B) İşgücü
C) Sermaye D) Tüketim

2. Neyin, nasıl, ne zaman, nerede üretileceğine karar veren ve bunun için gerekli tüm çalışmaları yapan kişilere ait tanımlama aşağıdakilerden hangisidir?

- A) Girişimci B) Yönetici
C) Müdür D) Organizatör

3. Yaratıcı müteşebbisliğe yönelik yapılan açıklamalardan hangisi yanlıştır?

- A) Yeni bir fikir vardır.
B) Yeni bir buluş esas alınır.
C) Kârlılığa gereken önem verilir.
D) Mevcut işleyiş aynen sürdürülür.

4. Aşağıdakilerden hangisi, müteşebbisliğin işlevlerinden birini gösterir?

- A) Yeni pazarlara kapalı olmak
B) Yeni girdi kaynakları bulabilmek
C) Daha iyiyi ucuz üretmekten kaçınmak
D) Kamu, devlet ilişkilerinden uzak durmak

5. Aşağıdakilerden hangisi, dünyada müteşebbisliğin önemli bir konuma sahip olmasının nedenlerinden biri değildir?

- A) Teknolojinin gelişmesini sağlar.
B) Vergi gelirlerinin artmasına neden olur.
C) Altyapı hizmetlerinin giderilmesini sağlar.
D) Sadece büyük tasarrufların üretime katılmasını sağlar.

6. Bilim adamı Abraham H. Maslow'un ihtiyaç hiyerarşisine göre, fizyolojik ihtiyaçlardan sonra hangi ihtiyaçlar ortaya çıkmaktadır?

- A) Saygı
B) Güvenlik
C) Başarma
D) Sevgi ve ait olma

7. Tüketim mallarının özelliklerine yönelik, aşağıdaki açıklamalardan hangisi yanlıştır?

- A) Kişi ihtiyaçlarını karşılar.
B) Örgüt ihtiyaçlarını karşılar.
C) Başka işlemden geçerek kullanılırlar.
D) Bu malları kullananlara son tüketici denir.

8. Aşağıdakilerden hangisi, talebin özelliklerinden birini gösterir?

- A) Tanıma süreci
B) Doygunluk dönemi
C) Satın alma gücü
D) İç ve dış çevre ile etkileşim

9. Aşağıdakilerden hangisi bir işletmenin yaşamını sürdürmesine yönelik bir hedef olamaz?

- A) İşletmenin, kısa vadeler için kurulması
B) Normal bir kazancın hedeflenmesi
C) İşletmenin sürekliliğinin hedeflenmesi
D) Mümkün olduğunca büyümenin esas alınması

10. Aşağıdakilerden hangisi, işletme yönetiminde başarılı bir yöneticinin "Vizyon sahipliği" niteliğini göstermektedir?

- A) Kişisel güveni ifade etme
B) Kişisel desteğini ifade etme
C) Etkileme ve duygularını anlayabilme
D) Görüşlerini rahatça ifade edebilme

11. İşletmelerde insan davranışlarının hedeflenen amacı gerçekleştirmek için yönlendirilmesine ne denir?

- A) Motivasyon
B) Organizasyon
C) Yürütme
D) Yönelme

12. Planlama ile ilgili verilen açıklamalardan hangisi doğru değildir?

- A) Planlama bilinçli bir süreçtir.
B) Doğabilecek riskleri en aza indirir.
C) Geleceği şans faktörüne bırakma işidir.
D) Geleceğe ilişkin kararların belirlenmesidir

13. Toplam kalite yönetiminin anlamı ve unsurları kapsamında, kalite ile ilgili yapılan açıklamalardan hangisi doğrudur?

- A) Kalite, sonuç olarak kabul edilir.
B) Kalite, başlangıç olarak kabul edilir.
C) Kalite, hata ayıklama olarak hedeflenir.
D) Kalite, kontrol yapılanması olarak hedeflenir.

14. Aşağıdakilerden hangisi kamu işletmeleri kapsamında değildir?

- A) İktisadi Devlet Teşekkülleri
B) Kamu İktisadi Kuruluşları
C) Döner Sermaye İşletmeleri
D) Dernek ve Vakıfların İktisadi İşletmeleri

15. Hukuki şekilleri bakımından "Adi Şirketler", aşağıdakilerden hangisinin kapsamında yer almaktadır?

- A) Özel işletmeler
B) Kamu işletmeleri
C) Karma işletmeler
D) Yabancı sermayeli işletmeler

16. Aşağıdaki açıklamalardan hangisi, Kamu İktisadi Teşebbüslerinin özelliklerinden biri değildir?

- A) KİT'ler tüzel kişiliklerdir.
B) Zararları genel bütçeden karşılanır.
C) KİT'lerin kurulması özel girişimcilikle olur.
D) Yöneticileri büyük oranda devletçe belirlenir.

2. OTURUM

(998) MATEMATİK – 1

17. Aşağıdaki açıklamalardan hangisi, holdinglerin ortaya çıkacağı bir sakınca olarak kabul edilebilir?

- A) Tekelci bir güç oluşturması
- B) Sermaye birikimine yol açması
- C) Çok sayıda işletmelerden oluşması
- D) Ana işletme etrafında oluşum sağlanması

18. İki ya da daha fazla işletme yöneticisinin, bir ya da birkaç konuda ne yapacaklarını saptayıp, kalıcı bir işbirliği yapmaları, aşağıdakilerden hangisi ile ifade edilmektedir?

- A) POOL
- B) RİNG
- C) TRÖST
- D) FÜZYON

19. “Birincil talebi yaratma” açısından yapılacak bir reklam, aşağıdaki reklam çeşitlerinden hangisi ile ilgilidir?

- A) Yapanlar açısından
- B) Hedef kitle açısından
- C) Reklam içeriği açısından
- D) Amaçlar açısından

20. Aşağıdaki açıklamalardan hangisi, satış işleminin gerçekleşmesine yönelik bir gerekliliktir?

- A) Arzın sağlanması
- B) Satıcının fiyata razı olması
- C) Ürün fiyatının tespit edilmesi
- D) Ürün mülkiyetinin devredilmesi

1. Aşağıdakilerden hangisi sonlu kümedir?

- A) $K = \{x | -1 < x < 5, x \in \mathbb{Z}\}$
- B) $L = \{x | x > 5, x \in \mathbb{N}\}$
- C) $M = \{x | -5 < x < 2, x \in \mathbb{Q}\}$
- D) $N = \{x | x < -3, x \in \mathbb{Z}^-\}$

2. A ve B kümeleri için $s(A \cup B) = 27$, $s(A - B) = 5$ ve $s(A \cap B) = 9$ olduğuna göre $s(B - A)$ kaçtır?

- A) 22
- B) 18
- C) 14
- D) 13

3. Bir spor kulübünde yüzme ve tenis kursları verilmektedir. Yüzme kursuna 35, tenis kursuna 17 ve her iki kursa 8 kişi katıldığına göre bu iki kursa toplam kaç kişi katılmıştır?

- A) 42
- B) 44
- C) 46
- D) 48

4. 4 elemanlı bir kümenin en çok 2 elemanlı alt kümelerinin sayısı kaçtır?

- A) 5
- B) 6
- C) 10
- D) 11

5. $A = \{a, b, c\}$ ve $s(A \times B) = 12$ olduğuna göre B kümesi aşağıdakilerden hangisi olabilir?

- A) $\{1, 2, 3, 4\}$
- B) $\{2, 3, 4\}$
- C) $\{e, f, g, h, m\}$
- D) $\{e, f\}$

6. $A = \left\{ \frac{1}{3}, 0, \pi, \sqrt{5}, \sqrt{16}, 0, 2 \right\}$

olduğuna göre A kümesinin elemanlarından kaç tanesi rasyonel sayıdır?

- A) 2
- B) 3
- C) 4
- D) 5

7. $(x - 4, 8) = (7, x - y)$ olduğuna göre $x + y$ kaçtır?

- A) 11
- B) 12
- C) 13
- D) 14

8. $|x + 6| < 4$ eşitsizliğini sağlayan x tam sayılarının toplamı kaçtır?

- A) -54
- B) -51
- C) -42
- D) -33

9. $-1 < x < 2$ olduğuna göre $|x + 1| + |x - 2|$ ifadesinin eşiti aşağıdakilerden hangisidir?

- A) -1
- B) 3
- C) $2x - 1$
- D) $2x + 3$

10. $\sqrt{3 + \frac{6}{25}}$

işleminin sonucu kaçtır?

- A) $\frac{6}{5}$
- B) $\frac{7}{5}$
- C) $\frac{8}{5}$
- D) $\frac{9}{5}$

11. $\frac{1}{1 - \sqrt{2}} + \frac{1}{1 + \sqrt{2}}$ işleminin sonucu kaçtır?

- A) -2
- B) $-\sqrt{2}$
- C) $\sqrt{2}$
- D) 2

2. OTURUM

12. 4^{16} sayısının yarısı kaçtır?

- A) 2^8 B) 2^{15} C) 2^{16} D) 2^{31}

13. $(2x + 1)^3 = 125$ denklemini sağlayan x değeri kaçtır?

- A) 2 B) 1 C) -3 D) -4

14. $\begin{cases} 3x - y = 12 \\ x + 4y = 4 \end{cases}$ denklem sisteminin çözüm kümesi aşağıdaki-lerden hangisidir?

- A) $\{(0, -12)\}$ B) $\{(4, 0)\}$
C) $\{(3, -3)\}$ D) $\{(2, -6)\}$

15. $\frac{4}{5} = \frac{a}{b}$ orantısında $a = 20$ olduğuna göre b kaçtır?

- A) 15 B) 20
C) 25 D) 30

16. $(a - 2)x + b + 6 = 0$ denkleminin çözüm kümesi tüm gerçekteki sayılar olduğuna göre $a + b$ kaçtır?

- A) -8 B) -4
C) 2 D) 6

17. Bir yük asansörü tek seferde en fazla 400 kg yük taşıyabilmektedir. 80 kg ağırlığındaki bir işçi bu asansöre kendisi ile birlikte her biri 30 kg olan çuvalardan tek seferde en fazla kaç tane yükleyebilir?

- A) 10 B) 11 C) 12 D) 13

18. %20'si 12 olan sayının %25'i kaçtır?

- A) 15 B) 18 C) 20 D) 21

19. $f : \mathbb{R} \rightarrow \mathbb{R}$,

$$f(x) = \frac{ax}{2} + \frac{bx}{3} + 3 - c$$

fonksiyonu birim fonksiyon olduğuna göre $3a + 2b + c$ kaçtır?

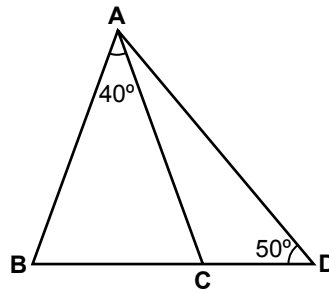
- A) 8 B) 9 C) 10 D) 11

20. $f : \mathbb{R} \rightarrow \mathbb{R}$, $f(x) = \sqrt[3]{x} + 1$ olduğuna göre $f(-8) + f(27)$ kaçtır?

- A) 5 B) 4 C) 3 D) 2

(999) MATEMATİK - 2

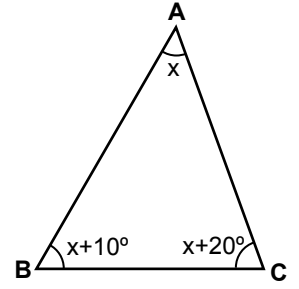
1.



Şekildeki ABD üçgeninde $|AB| = |AC|$, $m(\widehat{BAC}) = 40^\circ$ ve $m(\widehat{ADB}) = 50^\circ$ olduğuna göre $m(\widehat{CAD})$ kaç derecedir?

- A) 20 B) 25 C) 30 D) 35

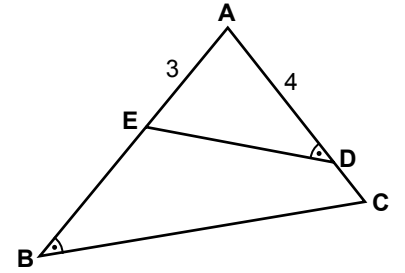
2.



Şekildeki ABC üçgeninde $m(\widehat{BAC}) = x$, $m(\widehat{ABC}) = x + 10^\circ$ ve $m(\widehat{ACB}) = x + 20^\circ$ olduğuna göre $m(\widehat{ACB})$ kaç derecedir?

- A) 40 B) 60 C) 70 D) 80

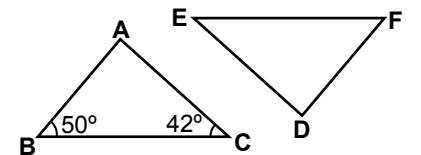
3.



Şekilde $m(\widehat{EDA}) = m(\widehat{ABC})$, $|AB| = 7$ cm, $|AE| = 3$ cm ve $|AD| = 4$ cm olduğuna göre $|AC|$ kaç santimetredir?

- A) $\frac{12}{7}$ B) $\frac{21}{4}$
C) 6 D) 8

4.

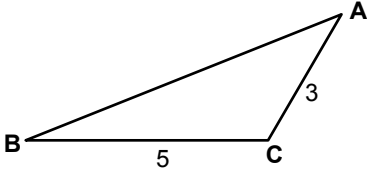


Şekilde $\widehat{ABC} \cong \widehat{DFE}$ 'tir. $m(\widehat{ABC}) = 50^\circ$ ve $m(\widehat{BCA}) = 42^\circ$ olduğuna göre $m(\widehat{EDF})$ kaç derecedir?

- A) 88 B) 86 C) 84 D) 82

2. OTURUM

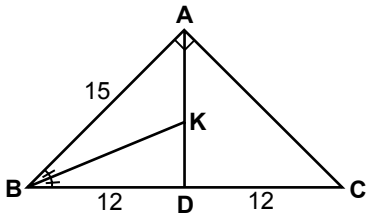
5.



Şekildeki ABC üçgeninde $|AC| = 3$ cm, $|BC| = 5$ cm olduğuna göre $|AB|$ 'nin alabileceği **en büyük** tam sayı değeri kaç santimetredir?

- A) 8 B) 7 C) 6 D) 5

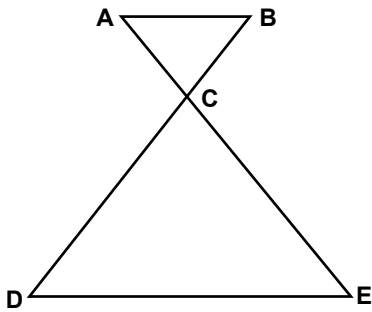
6.



Şekildeki ABC üçgeninde $[AB] \perp [AC]$ 'tir. $m(\widehat{CBK}) = m(\widehat{KBA})$, $|AB| = 15$ cm ve $|BD| = |DC| = 12$ cm olduğuna göre $|KD|$ kaç santimetredir?

- A) $\frac{14}{3}$ B) 5 C) $\frac{16}{3}$ D) 6

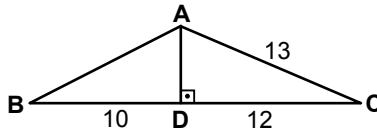
7.



Şekilde $[AB] \parallel [DE]$ ve $[AE] \cap [BD] = \{C\}$ 'tir. $\frac{|AC|}{|CE|} = \frac{2}{5}$ ve $|AB| = 5$ cm olduğuna göre $|DE|$ kaç santimetredir?

- A) 2 B) $\frac{12}{5}$ C) 10 D) $\frac{25}{2}$

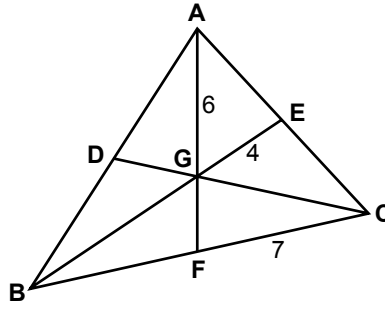
8.



Şekildeki ABC üçgeninde $[AD] \perp [BC]$ 'tir. $|BD| = 10$ cm, $|DC| = 12$ cm ve $|AC| = 13$ cm olduğuna göre $|AB|$ kaç santimetredir?

- A) $4\sqrt{5}$ B) 10
C) 11 D) $5\sqrt{5}$

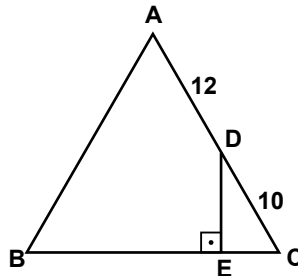
9.



Şekildeki ABC üçgeninde $[AF]$, $[BE]$ ve $[CD]$ kenarortaylarının kesim noktası G'dir. $|AG| = 6$ cm, $|GE| = 4$ cm ve $|FC| = 7$ cm olduğuna göre BFG üçgeninin çevresi kaç santimetredir?

- A) 16 B) 17 C) 18 D) 19

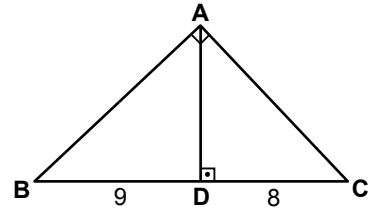
10.



Şekildeki ABC eşkenar üçgeninde, $[DE] \perp [BC]$ 'tir. $|AD| = 12$ cm ve $|DC| = 10$ cm olduğuna göre $|BE|$ kaç santimetredir?

- A) 17 B) 16 C) 15 D) 14

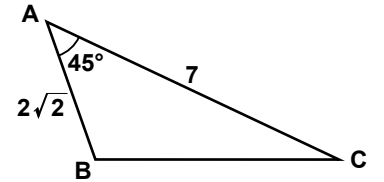
11.



Şekildeki ABC üçgeninde $[AB] \perp [AC]$ ve $[AD] \perp [BC]$ 'tir. $|BD| = 9$ cm ve $|DC| = 8$ cm olduğuna göre $|AD|$ kaç santimetredir?

- A) 17 B) $8\sqrt{2}$
C) $6\sqrt{2}$ D) 6

12.



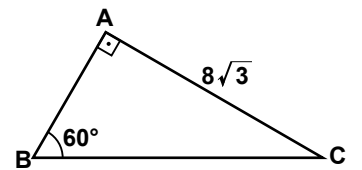
Şekildeki ABC üçgeninde, $m(\widehat{CAB}) = 45^\circ$, $|AB| = 2\sqrt{2}$ cm ve $|AC| = 7$ cm olduğuna göre $A(\widehat{ABC})$ kaç santimetrekaredir?

- A) $2\sqrt{2}$ B) 7
C) $7\sqrt{2}$ D) $14\sqrt{2}$

13. Kenar uzunlukları 13 cm, 14 cm ve 15 cm olan üçgenin alanı kaç santimetrekaredir?

- A) 72 B) 78 C) 84 D) 90

14.



Şekildeki ABC üçgeninde, $[AB] \perp [AC]$, $|AC| = 8\sqrt{3}$ cm ve $m(\widehat{ABC}) = 60^\circ$ olduğuna göre $|BC|$ kaç santimetredir?

- A) 28 B) 24 C) 18 D) 16

2. OTURUM

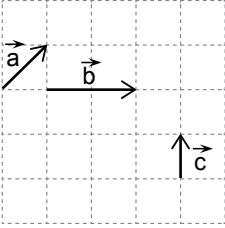
15. $\sin 75^\circ$, $\cos 125^\circ$, $\tan 170^\circ$ ve $\cot 250^\circ$ değerlerinin işaretleri sırasıyla aşağıdakilerden hangisinde verilmiştir?

- A) +, -, -, + B) -, -, +, -
C) +, -, +, - D) +, +, +, -

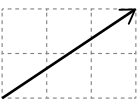
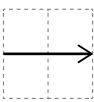
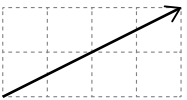
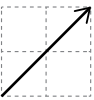
16. $0^\circ < a < 90^\circ$ olmak üzere $\tan a = \frac{12}{5}$ ise $\cos a$ kaçtır?

- A) $\frac{13}{5}$ B) $\frac{13}{12}$
C) $\frac{12}{13}$ D) $\frac{5}{13}$

17.



Şekilde \vec{a} , \vec{b} ve \vec{c} vektörleri verilmiştir. Buna göre $\vec{a} + \vec{b} + \vec{c}$ aşağıdakilerden hangisidir?

- A)  B) 
C)  D) 

18. Bir madeni para art arda 3 kez havaya atılıyor. Buna göre paranın üst yüzüne iki kez yazı bir kez tura gelme olasılığı kaçtır?

- A) $\frac{7}{16}$ B) $\frac{3}{8}$ C) $\frac{1}{4}$ D) $\frac{1}{8}$

19. 7, 13, 10, 6, 14 veri grubundan hangi sayı çıkarılırsa aritmetik ortalama değişmez?

- A) 6 B) 7 C) 10 D) 13

20. 11, 32, 51, 43, 32, 45, 32, 45, 47 veri grubunun ortanca değeri kaçtır?

- A) 32 B) 43 C) 45 D) 47

TEST BİTTİ.
CEVAPLARINIZI KONTROL EDİNİZ.

SINAV SÜRESİNCE UYULACAK KURALLAR

- 1. Adaylar, sınav kurallarına ve salon görevlilerinin tüm uyarılarına uymak zorundadır. Kurallara ve uyarılara uymayan adayların sınavları geçersiz sayılacaktır.**
- 2. Sınav başladıktan sonra adayların salon görevlileri ve birbirleri ile konuşmaları; kalem, silgi vb. şeyleri istemeleri yasaktır.**
- 3. Adaylar sınav süresince, sınav giriş belgesi ile kimlik belgelerinden birini (nüfus cüzdanı, pasaport veya sürücü belgesi) masalarının üzerinde bulundurmamak zorundadır.**
- 4. Sınav evraklarını teslim etmeyen, soru kitapçıklarının sayfalarından bir kısmını eksik teslim edenlerin sınavları geçersiz sayılacaktır.**

SALON GÖREVLİLERİNCE SINAV BAŞLAMADAN ÖNCE ADAYLARA YAPILACAK SON UYARILAR

- Soracağınız bir şey varsa şimdi sorunuz, sınav başladıktan sonra sorularınıza cevap verilmeyecektir.
- Başlama zilini bekleyiniz.

Hepinize başarılar dileriz.

(Salon başkanı başlama ve bitiş saatini tahtaya yazacaktır.)

Bu kitapçığın her hakkı saklıdır. Hangi amaçla olursa olsun, kitapçığın tamamının veya bir kısmının Millî Eğitim Bakanlığı Ölçme, Değerlendirme ve Sınav Hizmetleri Genel Müdürlüğünün yazılı izni olmadan kopya edilmesi, fotoğraflarının çekilmesi, bilgisayar ortamına alınması, herhangi bir yolla çoğaltılması, yayımlanması veya başka bir amaçla kullanılması yasaktır. Bu yasağa uymayanlar, doğabilecek cezai sorumluluğu ve kitapçığın hazırlanmasındaki mali külfeti peşinen kabullenmiş sayılır.

02 EKİM 2017 TARİHİNDE YAPILAN AÇIK ÖĞRETİM LİSESİ / MESLEKİ AÇIK ÖĞRETİM LİSESİ
2015-2016 ÖĞRETİM YILI EK SINAVI 2. OTURUM T KİTAPÇIĞI CEVAP ANAHTARI

DİN KÜL.AHL.BİL. – 1	DİN KÜL.AHL.BİL. – 3	SEÇ. FELSEFE – 1	COĞRAFYA – 1
1. A	1. D	1. A	1. B
2. C	2. A	2. D	2. D
3. C	3. D	3. D	3. C
4. D	4. A	4. C	4. D
5. D	5. B	5. B	5. C
6. B	6. C	6. C	6. D
7. A	7. B	7. B	7. A
8. A	8. D	8. A	8. B
9. C	9. A	9. B	9. D
10. B	10. B	10. D	10. A
11. C	11. B	11. B	11. C
12. C	12. D	12. C	12. A
13. B	13. C	13. A	13. D
14. D	14. B	14. C	14. B
15. B	15. C	15. D	15. A
16. C	16. A	16. B	16. C
17. D	17. D	17. D	17. A
18. A	18. C	18. C	18. B
19. B	19. D	19. A	19. B
20. D	20. A	20. A	20. C

DİN KÜL.AHL.BİL. – 2	DİN KÜL.AHL.BİL. – 4	SEÇ. FELSEFE – 2	COĞRAFYA – 2
1. D	1. D	1. B	1. D
2. C	2. B	2. A	2. D
3. B	3. A	3. C	3. A
4. B	4. D	4. A	4. B
5. C	5. A	5. D	5. A
6. C	6. C	6. B	6. B
7. D	7. D	7. C	7. B
8. B	8. A	8. A	8. D
9. D	9. D	9. B	9. C
10. A	10. B	10. D	10. C
11. A	11. D	11. B	11. D
12. C	12. C	12. C	12. B
13. A	13. D	13. A	13. A
14. D	14. B	14. C	14. C
15. A	15. C	15. B	15. D
16. D	16. B	16. A	16. C
17. A	17. C	17. D	17. B
18. D	18. A	18. C	18. A
19. C	19. C	19. D	19. A
20. B	20. A	20. D	20. D

02 EKİM 2016 TARİHİNDE YAPILAN AÇIK ÖĞRETİM LİSESİ / MESLEKİ AÇIK ÖĞRETİM LİSESİ
2015-2016 ÖĞRETİM YILI EK SINAVI 2. OTURUM T KİTAPÇIĞI CEVAP ANAHTARI

İNGİLİZCE – 1

1. C
2. B
3. A
4. D
5. B
6. C
7. D
8. B
9. D
10. B
11. A
12. A
13. C
14. D
15. B
16. D
17. C
18. A
19. D
20. A

FRANSIZCA – 1

1. C
2. B
3. A
4. B
5. A
6. C
7. D
8. C
9. C
10. D
11. A
12. B
13. A
14. D
15. C
16. D
17. B
18. B
19. A
20. D

ALMANCA – 2

1. C
2. A
3. D
4. B
5. D
6. C
7. A
8. B
9. A
10. D
11. A
12. B
13. C
14. D
15. A
16. B
17. B
18. D
19. C
20. D

PSIKOLOJİ – 2

1. B
2. C
3. D
4. C
5. A
6. D
7. A
8. C
9. A
10. B
11. B
12. C
13. D
14. C
15. A
16. D
17. A
18. B
19. B
20. D

ALMANCA – 1

1. A
2. C
3. B
4. C
5. B
6. D
7. A
8. B
9. D
10. C
11. A
12. C
13. B
14. C
15. D
16. D
17. A
18. D
19. A
20. B

İNGİLİZCE – 2

1. D
2. B
3. C
4. A
5. C
6. A
7. D
8. B
9. A
10. C
11. D
12. C
13. A
14. B
15. B
16. C
17. A
18. C
19. D
20. B

FRANSIZCA – 2

1. C
2. A
3. C
4. D
5. B
6. C
7. D
8. A
9. B
10. C
11. C
12. A
13. B
14. D
15. D
16. B
17. A
18. B
19. D
20. A

SOSYOLOJİ – 1

1. D
2. A
3. B
4. D
5. C
6. A
7. C
8. B
9. D
10. A
11. D
12. B
13. D
14. A
15. C
16. C
17. B
18. B
19. C
20. A

02 EKİM 2016 TARİHİNDE YAPILAN AÇIK ÖĞRETİM LİSESİ / MESLEKİ AÇIK ÖĞRETİM LİSESİ
2015-2016 ÖĞRETİM YILI EK SINAVI 2. OTURUM T KİTAPÇIĞI CEVAP ANAHTARI

DİL ve ANLATIM – 1

1. C
2. B
3. C
4. B
5. A
6. D
7. B
8. A
9. D
10. D
11. A
12. D
13. B
14. A
15. C
16. B
17. C
18. A
19. C
20. C

TÜRK EDEBİYATI – 1

1. C
2. B
3. A
4. C
5. A
6. A
7. C
8. C
9. B
10. D
11. B
12. C
13. C
14. B
15. D
16. D
17. A
18. D
19. A
20. B

FİZİK – 1

1. D
2. B
3. A
4. B
5. C
6. B
7. B
8. A
9. D
10. C
11. C
12. D
13. C
14. A
15. D
16. A
17. B
18. D
19. C
20. A

FİZİK – 3

1. D
2. B
3. C
4. C
5. A
6. A
7. B
8. D
9. C
10. B
11. C
12. A
13. D
14. B
15. B
16. B
17. A
18. C
19. D
20. A

DİL ve ANLATIM – 2

1. C
2. A
3. D
4. B
5. A
6. C
7. B
8. C
9. A
10. B
11. D
12. D
13. A
14. C
15. B
16. B
17. D
18. B
19. B
20. C

TÜRK EDEBİYATI – 2

1. B
2. D
3. B
4. A
5. C
6. A
7. B
8. C
9. D
10. A
11. D
12. D
13. A
14. D
15. B
16. A
17. C
18. C
19. B
20. A

FİZİK – 2

1. C
2. B
3. D
4. B
5. A
6. B
7. A
8. A
9. D
10. A
11. D
12. C
13. A
14. C
15. B
16. D
17. B
18. C
19. C
20. A

FİZİK – 4

1. D
2. C
3. D
4. C
5. A
6. B
7. C
8. B
9. D
10. D
11. D
12. A
13. B
14. B
15. C
16. A
17. B
18. C
19. D
20. A

02 EKİM 2016 TARİHİNDE YAPILAN AÇIK ÖĞRETİM LİSESİ / MESLEKİ AÇIK ÖĞRETİM LİSESİ
2015-2016 ÖĞRETİM YILI EK SINAVI 2. OTURUM T KİTAPÇIĞI CEVAP ANAHTARI

KİMYA – 3

1. A
2. C
3. D
4. B
5. C
6. C
7. A
8. D
9. B
10. C
11. A
12. D
13. A
14. D
15. B
16. A
17. B
18. B
19. C
20. D

BİYOLOJİ – 3

1. C
2. A
3. A
4. D
5. B
6. C
7. D
8. D
9. C
10. B
11. C
12. A
13. D
14. A
15. B
16. A
17. C
18. B
19. D
20. B

ÇAĞ. TÜRK DÜN. TAR. – 1

1. B
2. A
3. B
4. D
5. C
6. B
7. D
8. D
9. C
10. A
11. A
12. C
13. B
14. D
15. C
16. B
17. C
18. A
19. D
20. A

EKONOMİ – 1

1. C
2. B
3. C
4. B
5. A
6. D
7. D
8. A
9. A
10. A
11. C
12. D
13. B
14. C
15. A
16. D
17. A
18. B
19. A
20. C

KİMYA – 4

1. B
2. D
3. A
4. D
5. C
6. B
7. A
8. D
9. C
10. A
11. B
12. D
13. C
14. C
15. A
16. B
17. D
18. C
19. D
20. A

BİYOLOJİ – 4

1. D
2. A
3. D
4. C
5. B
6. A
7. C
8. A
9. B
10. C
11. A
12. C
13. B
14. D
15. B
16. D
17. C
18. D
19. B
20. A

DEM. VE İNSAN HAK. – 1

1. C
2. A
3. D
4. B
5. C
6. D
7. A
8. B
9. C
10. D
11. D
12. C
13. D
14. B
15. A
16. B
17. C
18. A
19. A
20. B

EKONOMİ – 2

1. C
2. B
3. A
4. A
5. B
6. D
7. D
8. A
9. A
10. D
11. B
12. D
13. D
14. B
15. C
16. A
17. C
18. C
19. A
20. A

02 EKİM 2016 TARİHİNDE YAPILAN AÇIK ÖĞRETİM LİSESİ / MESLEKİ AÇIK ÖĞRETİM LİSESİ
2015-2016 ÖĞRETİM YILI EK SINAVI 2. OTURUM T KİTAPÇIĞI CEVAP ANAHTARI

İŞLETME – 1

1. D
2. B
3. D
4. A
5. B
6. C
7. A
8. C
9. A
10. B
11. B
12. D
13. A
14. C
15. B
16. D
17. C
18. A
19. D
20. A

MANTIK –2

1. C
2. A
3. D
4. C
5. D
6. B
7. A
8. B
9. C
10. A
11. B
12. A
13. C
14. C
15. B
16. D
17. D
18. C
19. B
20. A

SANAT TARİHİ – 2

1. C
2. D
3. B
4. A
5. D
6. B
7. A
8. D
9. D
10. B
11. B
12. A
13. B
14. D
15. A
16. C
17. B
18. D
19. A
20. C

SEÇ. TARİH – 4

1. A
2. D
3. A
4. B
5. C
6. D
7. B
8. C
9. A
10. B
11. C
12. A
13. B
14. D
15. C
16. A
17. D
18. B
19. C
20. A

İŞLETME – 2

1. C
2. C
3. B
4. A
5. A
6. C
7. D
8. B
9. A
10. C
11. B
12. A
13. D
14. B
15. C
16. A
17. D
18. C
19. B
20. D

SANAT TARİHİ – 1

1. B
2. A
3. A
4. C
5. C
6. B
7. C
8. D
9. C
10. A
11. C
12. A
13. D
14. D
15. C
16. A
17. C
18. B
19. D
20. A

SEÇ. TARİH – 3

1. B
2. C
3. A
4. D
5. D
6. A
7. B
8. C
9. B
10. D
11. A
12. C
13. B
14. D
15. A
16. D
17. A
18. B
19. B
20. D

SEÇ. COĞRAFYA – 3

1. A
2. C
3. D
4. D
5. B
6. A
7. B
8. C
9. D
10. A
11. C
12. C
13. D
14. B
15. A
16. C
17. B
18. D
19. B
20. A

02 EKİM 2016 TARİHİNDE YAPILAN AÇIK ÖĞRETİM LİSESİ / MESLEKİ AÇIK ÖĞRETİM LİSESİ
2015-2016 ÖĞRETİM YILI EK SINAVI 2. OTURUM T KİTAPÇIĞI CEVAP ANAHTARI

SEÇ. COĞRAFYA – 4

1. A
2. A
3. C
4. B
5. C
6. D
7. C
8. B
9. A
10. D
11. D
12. B
13. A
14. B
15. C
16. D
17. A
18. B
19. D
20. C

FIKİH – 2

1. C
2. A
3. B
4. B
5. D
6. A
7. D
8. B
9. C
10. D
11. D
12. A
13. D
14. B
15. A
16. C
17. C
18. B
19. D
20. B

HZ. MUHAMMED'İN HAY. – 2

1. B
2. C
3. D
4. C
5. D
6. C
7. B
8. A
9. D
10. A
11. D
12. A
13. C
14. B
15. A
16. A
17. B
18. C
19. B
20. D

SEÇ. DİL VE ANLATIM – 4

1. D
2. A
3. B
4. C
5. C
6. D
7. A
8. B
9. B
10. C
11. B
12. D
13. A
14. C
15. B
16. C
17. D
18. B
19. A
20. A

FIKİH – 1

1. A
2. C
3. B
4. D
5. B
6. C
7. B
8. A
9. D
10. C
11. B
12. A
13. C
14. A
15. B
16. D
17. D
18. C
19. D
20. C

HZ. MUHAMMED'İN HAY. – 1

1. A
2. C
3. A
4. B
5. C
6. D
7. D
8. A
9. A
10. B
11. A
12. D
13. B
14. B
15. D
16. C
17. A
18. D
19. B
20. C

SEÇ. DİL VE ANLATIM – 3

1. D
2. A
3. C
4. B
5. D
6. A
7. A
8. B
9. B
10. C
11. D
12. C
13. A
14. B
15. D
16. A
17. C
18. B
19. B
20. A

SEÇ. DİL VE ANLATIM – 5

1. B
2. C
3. D
4. A
5. D
6. D
7. B
8. C
9. B
10. D
11. D
12. B
13. B
14. C
15. A
16. D
17. A
18. C
19. B
20. A

02 EKİM 2016 TARİHİNDE YAPILAN AÇIK ÖĞRETİM LİSESİ / MESLEKİ AÇIK ÖĞRETİM LİSESİ
2015-2016 ÖĞRETİM YILI EK SINAVI 2. OTURUM T KİTAPÇIĞI CEVAP ANAHTARI

SEÇ. DİL VE ANLATIM – 6

1. B
2. A
3. A
4. D
5. C
6. A
7. C
8. D
9. C
10. D
11. B
12. D
13. C
14. B
15. D
16. C
17. B
18. C
19. A
20. B

SEÇ. DİL VE ANLATIM – 8

1. B
2. C
3. A
4. B
5. D
6. C
7. D
8. C
9. C
10. D
11. A
12. A
13. D
14. B
15. A
16. B
17. C
18. B
19. C
20. B

SEÇ. TÜRK EDEB. – 4

1. D
2. C
3. D
4. B
5. B
6. B
7. A
8. A
9. B
10. C
11. C
12. A
13. D
14. C
15. D
16. D
17. A
18. B
19. C
20. D

SEÇ. TÜRK EDEB. – 6

1. D
2. D
3. A
4. B
5. C
6. B
7. A
8. C
9. B
10. D
11. D
12. B
13. D
14. C
15. A
16. A
17. D
18. C
19. A
20. B

SEÇ. DİL VE ANLATIM – 7

1. D
2. B
3. C
4. C
5. A
6. A
7. D
8. C
9. B
10. B
11. C
12. A
13. D
14. B
15. A
16. D
17. B
18. B
19. A
20. B

SEÇ. TÜRK EDEB. – 3

1. D
2. A
3. B
4. A
5. C
6. B
7. B
8. A
9. A
10. B
11. C
12. B
13. D
14. D
15. C
16. D
17. B
18. D
19. C
20. D

SEÇ. TÜRK EDEB. – 5

1. D
2. B
3. C
4. B
5. C
6. D
7. C
8. B
9. D
10. C
11. A
12. A
13. D
14. B
15. C
16. A
17. B
18. B
19. A
20. C

SEÇ. TÜRK EDEB. – 7

1. D
2. A
3. C
4. D
5. B
6. D
7. D
8. B
9. A
10. D
11. A
12. C
13. C
14. D
15. A
16. B
17. B
18. C
19. B
20. D

02 EKİM 2016 TARİHİNDE YAPILAN AÇIK ÖĞRETİM LİSESİ / MESLEKİ AÇIK ÖĞRETİM LİSESİ
2015-2016 ÖĞRETİM YILI EK SINAVI 2. OTURUM T KİTAPÇIĞI CEVAP ANAHTARI

SEÇ. TÜRK EDEB. – 8

1. C
2. C
3. B
4. A
5. C
6. C
7. D
8. A
9. D
10. A
11. C
12. B
13. A
14. D
15. D
16. A
17. B
18. B
19. A
20. B

İSLAM TARİHİ – 2

1. D
2. C
3. A
4. B
5. C
6. C
7. D
8. B
9. D
10. A
11. C
12. B
13. A
14. B
15. C
16. B
17. A
18. D
19. B
20. B

SİYER – 2

1. D
2. B
3. B
4. A
5. B
6. C
7. A
8. A
9. D
10. D
11. A
12. B
13. C
14. B
15. A
16. A
17. B
18. C
19. C
20. D

GİRİŞİMCİLİK – 2

1. B
2. A
3. D
4. B
5. D
6. B
7. C
8. C
9. A
10. D
11. A
12. C
13. B
14. D
15. A
16. C
17. A
18. B
19. D
20. C

İSLAM TARİHİ – 1

1. A
2. B
3. D
4. B
5. A
6. D
7. A
8. B
9. C
10. B
11. A
12. A
13. D
14. C
15. C
16. A
17. D
18. B
19. C
20. C

SİYER – 1

1. A
2. D
3. C
4. B
5. C
6. B
7. A
8. C
9. B
10. B
11. A
12. C
13. D
14. A
15. C
16. D
17. B
18. D
19. C
20. A

GİRİŞİMCİLİK – 1

1. C
2. A
3. C
4. A
5. B
6. B
7. A
8. C
9. C
10. B
11. C
12. A
13. B
14. A
15. D
16. C
17. A
18. A
19. C
20. B

MATEMATİK – 1

1. A
2. D
3. B
4. D
5. A
6. C
7. D
8. C
9. B
10. D
11. A
12. D
13. A
14. B
15. C
16. B
17. A
18. A
19. B
20. C

02 EKİM 2016 TARİHİNDE YAPILAN AÇIK ÖĞRETİM LİSESİ / MESLEKİ AÇIK ÖĞRETİM LİSESİ
2015-2016 ÖĞRETİM YILI EK SINAVI 2. OTURUM T KİTAPÇIĞI CEVAP ANAHTARI

MATEMATİK – 2

1. A
2. C
3. B
4. A
5. B
6. C
7. D
8. D
9. C
10. A
11. C
12. B
13. C
14. D
15. A
16. D
17. A
18. B
19. C
20. B

**02 EKİM 2016 TARİHİNDE YAPILAN AÇIK ÖĞRETİM LİSESİ / MESLEKİ AÇIK ÖĞRETİM LİSESİ
2015-2016 ÖĞRETİM YILI EK SINAVI 2. OTURUM T KİTAPÇIĞI CEVAP ANAHTARI**

--	--	--