

OTURUM

1



T.C.
MİLLÎ EĞİTİM BAKANLIĞI
ÖLÇME, DEĞERLENDİRME VE SINAV HİZMETLERİ
GENEL MÜDÜRLÜĞÜ

T

AÇIK ÖĞRETİM LİSESİ / MESLEKİ AÇIK ÖĞRETİM LİSESİ
2015-2016 ÖĞRETİM YILI EK SINAV
1. OTURUM: 11 ARALIK 2016 Saat: 9.30

<u>DERS KODU VE ADI</u>	<u>SAYFA</u>	<u>DERS KODU VE ADI</u>	<u>SAYFA</u>	<u>DERS KODU VE ADI</u>	<u>SAYFA</u>
(115) DİN KÜL. AHL. BİL. – 5	3	(242) FRANSIZCA – 3	30	(465) TEMEL DİNİ BİL. – 1	59
(116) DİN KÜL. AHL. BİL. – 6	4	(243) İNGİLİZCE – 4	31	(466) TEMEL DİNİ BİL. – 2	61
(117) DİN KÜL. AHL. BİL. – 7	5	(243) ALMANCA – 4	32	(478) MANTIK – 1	62
(118) DİN KÜL. AHL. BİL. – 8	7	(243) FRANSIZCA – 4	33	(483) SAĞLIK BİLGİSİ – 1	63
(121) FELSEFE – 1	8	(244) İNGİLİZCE – 5	34	(484) SAĞLIK BİLGİSİ – 2	65
(122) FELSEFE – 2	9	(244) ALMANCA – 5	34	(491) TRAF. VE İLK YARD. – 1	66
(131) TARİH – 1	11	(244) FRANSIZCA – 5	35	(492) TRAF. VE İLK YARD. – 2	68
(132) TARİH – 2	12	(403) DİL VE ANLATIM – 3	36	(500) İNGİLİZCE – 6	70
(133) TARİH – 3	13	(404) DİL VE ANLATIM – 4	38	(500) ALMANCA – 6	71
(134) TARİH – 4	14	(405) DİL VE ANLATIM – 5	40	(500) FRANSIZCA – 6	72
(135) TARİH – 5	15	(406) DİL VE ANLATIM – 6	42	(501) İNGİLİZCE – 7	73
(136) TARİH – 6	16	(407) DİL VE ANLATIM – 7	43	(501) ALMANCA – 7	73
(141) T.C. İNK. TAR. VE ATA. – 1	18	(413) TÜRK EDEBİYATI – 3	45	(501) FRANSIZCA – 7	74
(142) T.C. İNK. TAR. VE ATA. – 2	19	(414) TÜRK EDEBİYATI – 4	46	(533) HZ. MUHAMMED'İN HAY. – 3	76
(153) COĞRAFYA – 3	20	(415) TÜRK EDEBİYATI – 5	48	(534) HZ. MUHAMMED'İN HAY. – 4	77
(154) COĞRAFYA – 4	21	(416) TÜRK EDEBİYATI – 6	49	(608) DEMOKRASI ve İNS. HAK. – 2	79
(163) MATEMATİK – 3	23	(417) TÜRK EDEBİYATI – 7	51	(611) KARŞ. DİN. TAR. – 1	80
(164) MATEMATİK – 4	24	(431) KİMYA – 1	52	(612) KARŞ. DİN. TAR. – 2	82
(206) PSİKOLOJİ – 1	25	(432) KİMYA – 2	54	(811) KELAM – 1	83
(209) SOSYOLOJİ – 2	27	(441) BİYOLOJİ – 1	55	(812) KELAM – 2	84
(242) İNGİLİZCE – 3	28	(442) BİYOLOJİ – 2	57		
(242) ALMANCA – 3	29	(452) Ç. TÜRK ve DÜNYA TAR. – 2	58		

ADAYLARIN DİKKATİNE!

- Her ders için 20 soru bulunmaktadır. Bu oturumda **180** dakikalık cevaplama süreniz vardır. Sınav başladıktan sonra ilk **30** dakika tamamlanmadan dışarı çıkmayınız.
- Sınav sırasında çanta, cep telefonu, saat, kablosuz iletişim sağlayan cihazlar ve kulaklık, kolye, küpe, bilezik, yüzük, broş ve benzeri eşyalar ile her türlü elektronik ve/veya mekanik cihazları yanınızda bulundurmuyunuz. Bu araçları kullanmanız ve kopya çekmeye teşebbüs etmeniz hâlinde sınavınız geçersiz sayılacaktır.
- Başvuru şartlarını taşımadığınız hâlde sınava girmeniz, kopya çekmeniz, başka adayın sınav evrakını kullanmanız, geçerli kimlik belgenizi ve sınav giriş belgenizi ibraz edemediğiniz durumlarda sınavınız geçersiz sayılacaktır.
- Sınavın değerlendirilmesi aşamasında, bilgisayar ortamında yapılan kopya analizinde sistemin ikili ve /veya toplu kopya tespiti hâlinde sınavınız geçersiz sayılacaktır.
- Adaylar, sınav kurallarına ve salon görevlilerinin tüm uyarılarına uymak zorundadır. Kurallara ve uyarılara uymayan adayların sınavları geçersiz sayılacaktır.**
- Sınav başladıktan sonra adayların salon görevlileri ve birbirleri ile konuşmaları; kalem, silgi vb. şeyleri istemeleri yasaktır.
- Adaylar sınav süresince, sınav giriş belgesi ile geçerli kimlik belgelerinden birinin aslını (fotoğraflı nüfus cüzdanı, pasaport veya sürücü belgesi) masalarının üzerinde bulundurmamak zorundadır.
- Sınav evraklarını teslim etmeyen, soru kitapçıklarının sayfalarından bir kısmını eksik teslim edenlerin sınavları geçersiz sayılacaktır.**
- Sınav başlamadan önce kitapçığın arkasındaki açıklamaları okuyunuz.

BAŞLAYINIZ DENMEDEN SORU KİTAPÇIKLARINI AÇMAYINIZ.

1. OTURUM

(115) DİN KÜL. AHL. BİL. – 5

1. Peygamber Efendimizin vefatından sonra halifenin kim olacağı konusundaki tartışmalar farklı düşünen grupların ortaya çıkmasında etkili olmuştur.

Bu metin, İslam düşüncesindeki yorum farklarının sebeplerinden daha çok hangisine örnektir?

- A) Dinî metinler
B) Siyasi sebepler
C) İnsanın yapısı
D) Ortam ve kültür

2. Aşağıdakilerden hangisi itikadi mezheplerden biridir?

- A) Caferilik B) Şafilik
C) Malikilik D) Eşarilik

3. Hz. Aişe, Peygamber Efendimizin ahlakını anlatırken: "Onun ahlâkı Kur'an'dı." demiştir.

Hz. Aişe'nin bu sözünü aşağıdaki ayetlerden hangisi desteklemektedir?

- A) "(Resulüm), elbette ki sen en güzel ahlâk üzeresin!"
(Kalem suresi, 4. ayet)
B) "Sen af yolunu tut. İyiliği emret ve cahillere aldırış etme."
(A'râf suresi, 199. ayet)
C) "(Resulüm!) Biz seni âlemlere ancak rahmet olarak gönderdik."
(Enbiyâ suresi, 107. ayet)
D) "Size kendi içinizden öyle bir peygamber gelmiştir ki, sizin sıkıntıya uğramanız ona çok ağır gelir..."
(Tevbe suresi, 128. ayet)

4. • Büyük günah işleyen, ne mü'min ne de kâfirdir.
• Böyle kimseler fasıktır yani iman ile küfür arasında bir yerededir.

Verilen bilgiler Mu'tezile mezhebinin aşağıdaki esaslarından hangisinin açıklamasıdır?

- A) Emri bil maruf nehyi anil münker
B) El menziletü beynel menziletayn
C) El va'd vel va'îd
D) Adalet

5. Aşağıdakilerden hangisi ibadetlerin bireysel faydalarından biri değildir?

- A) Yaratan ile ilişkiyi güçlendirir.
B) Sorumluluk bilincini geliştirir.
C) Dayanışmaya katkı sağlar.
D) İç huzuru güçlendirir.

6. Hayır ve şer hakkında aşağıdakilerden hangisi söylenemez?

- A) Hayrı da şerri de Allah yaratır.
B) İslam, insanı şerden uzaklaşmaya yöneltir.
C) Allah, insanlara hayır olanı emretmiştir.
D) Şer, Allah'ın iradesi ve takdiri dışında gerçekleşir.

7. "... Kararını verdiğin zaman artık Allah'a dayanıp güven. Çünkü Allah kendisine güvenenleri sever." (Âl-i İmrân suresi, 159. ayet)

Bu ayette aşağıdaki kavramlardan hangisinin tanımından söz edilmektedir?

- A) İbadet B) Tedbir
C) Tevekkül D) Cüzi irade

8. Aşağıdakilerden hangisi ibadetlerdeki kolaylığa örnek verilemez?

- A) Su bulunmadığında teyemmüm ile abdest alınması
B) Zengin Müslümanların malının kırkta birini zekât olarak vermesi
C) Hasta veya yaşlılıktan dolayı ayakta duramayanların oturarak namaz kılması
D) Yolculuk durumunda dört rekâtlık farz namazın iki rekât olarak kılınması

9. Hz. Muhammed (sav.)'in doğum günü olarak kutlanan kandil aşağıdakilerden hangisidir?

- A) Mevlit B) Regaip
C) Kadir D) Miraç

10. Arayı arayı bulsam izini
İzinin tozuna sürsem yüzümü,
Hak nasip eylese görsem yüzünü
Ya Muhammed canım arzular seni.

Bu dörtlükte Hz. Muhammed (sav.) için öne çıkan duygu aşağıdakilerden hangisidir?

- A) Özlem B) Saygı
C) Övgü D) Bağlılık

11. Aşağıdakilerden hangisi kişinin sorumlu tutulacağı konulardan biri değildir?

- A) Haksız yere cana kıymak
B) Ana-babaya isyan etmek
C) Devlet malını zimmetine geçirmek
D) Müslüman olmayan ana babadan dünyaya gelmek

12. İşlediği suçtan dolayı cezaya çarptırılan birisinin aşağıdaki ifadelerinden hangisi "kader" inancına uygundur?

- A) Kendim ettim kendim buldum
B) Kader mahkûmuyum
C) Alın yazım böyle imiş
D) Kaderim kara yazılmış

13. "Ey iman edenler! Allah'a ve ahiret gününe inanmadığı halde insanlara gösteriş olsun diye malını harcayan kimse gibi, sadakalarınızı başa kakmak ve gönül kırmak suretiyle boşa çıkarmayın..." (Bakara suresi, 264. ayet)

Bu ayette aşağıdakilerden hangisi vurgulanmıştır?

- A) İbadetlerde devamlılık
B) İhlâs ve samimiyet
C) Allah'a ve ahirete iman
D) Sadakaların kime verileceği

14. "Ehlibeyt" terimi neyi ifade eder?

- A) Hz. Peygamber'in ailesini
B) Hz. Peygamber'in ashabını
C) Hz. Peygamber'in kabilesini
D) Hz. Peygamber'in akrabalarını

1. OTURUM

15. İslam düşünce ekolleri aşağıdaki konuların hangisinde fikir ayrılığına düşmüşlerdir?

- A) Allah'ın birliği
- B) Ahiretin varlığı
- C) Halifenin kim olacağı
- D) Hz. Muhammed'in (sav.) peygamberliği

16. Aşağıda verilen ayetlerden hangisi tercihlerimizin sorumluluğunun bize ait olduğunu göstermez?

- A) "Kim hidayet yolunu seçerse, bunu ancak kendi iyiliği için seçmiş olur; kim de doğruluktan ayrılırsa kendine zarar vermiş olur. Hiçbir günahkâr başkasının günah yükünü üstlenmez." (İsrâ suresi, 15. ayet)
- B) "Başınıza gelen herhangi bir felaket (olumsuzluk), kendi elinizle işledikleriniz yüzündendir..." (Şûra suresi, 30. ayet)
- C) "Allah, her şahsı, ancak gücünün yettiği ölçüde sorumlu kılar. Herkesin kazandığı hayır kendine, yapacağı kötülük de kendinedir..." (Bakara suresi, 286. ayet)
- D) "Yeryüzünde bulunan her canlı yok olacak. Ancak azamet ve ikram sahibi Rabb'inin zâtı baki kalacaktır." (Rahman suresi, 27. ayet)

17. Peygamber Efendimizi örnek almanın doğru şekli aşağıdakilerden hangisidir?

- A) Onun gibi giyinmek
- B) Hadislerini ezberlemek
- C) Onu sevdiğini söylemek
- D) Sünnetini anlamak ve uygulamak

18. Aşağıdakilerden hangisi tüm mezheplerin üzerinde birleştiği İslam'ın temel unsurlarından biri değildir?

- A) Allah'ın birliği
- B) Peygamberlerin varlığı
- C) Mehdi inancı
- D) Kur'an-ı Kerim

19. Bir iyiliği veya ibadeti Allah'ın rızasını kazanmak için değil, insanların beğenisini kazanmak için yapmaya - - - - denir.

Boş bırakılan yere aşağıdakilerden hangisi getirilmelidir?

- A) ihsan
- B) ihlas
- C) riya
- D) samimiyet

20. "Gerçekten müminler kurtuluşa ermişlerdir; onlar ki, namazlarında huşu içindedirler, onlar ki, boş ve yararsız şeylerden yüz çevirirler; onlar ki, zekâtı verirler ve onlar ki, iffetlerini korurlar." (Mü'minûn suresi, 1-5. ayetler)

Verilen ayetlerde aşağıdakilerden hangisine değinilmemiştir?

- A) İffet ve namusu korumak
- B) Verilen sözleri yerine getirmek
- C) Namazları samimiyetle kılmak
- D) Boş ve faydasız işlerden kaçınmak

(116) DİN KÜL. AHL. BİL. – 6

1. Kur'an Kerim ile ilgili verilen bilgilerden hangisi yanlıştır?

- A) Arap edebiyatına meydan okumuştur.
- B) Hz. Muhammed(sav.)'in en büyük mucizesidir.
- C) Allah'ın insana olan rahmetinin bir göstergesidir.
- D) Yalnızca Arap toplumunu muhatap alan ilahi bir kitaptır.

2. Aşağıdakilerden hangisi Diyanet İşleri Başkanlığının hadis alanında yayımladığı eserlerden biridir?

- A) Hak Dini Kur'an Dili
- B) Kur'an-ı Kerim ve Meali
- C) Kur'an Yolu Türkçe Meal ve Tefsiri
- D) Sahih-i Buhari Muhtasarı Tecrid-i Sarih Tercümesi ve Şerhi

3. Aşağıdakilerden hangisi camide namaz kıldırma görevlidir?

- A) Müezzin
- B) Müftü
- C) İmam
- D) Vaiz

4. Aşağıdakilerden hangisi İslam'ın yasakladığı davranışlardan biridir?

- A) İki bayram arası düğün yapmak
- B) Evlilik dışı ilişki
- C) Bekâr yaşamak
- D) Boşanmak

5. "Dikkat ediniz, sizin kadınlar üzerinde, kadınların da sizin üzerinizde hakları vardır..."

Bu hadiste vurgulanan konu aşağıdakilerden hangisidir?

- A) Sorumluluk
- B) Sadakat
- C) İbadet
- D) İtaat

6. Aşağıdakilerden hangisi anne babaların çocuklarına karşı yapması beklenen davranışlardan biri değildir?

- A) Karşılık beklemeden sevmeleri
- B) Başarıları karşısında mutlu olmaları
- C) Onlara mutlu ve huzurlu ortam sağlamaları
- D) Onlar için her türlü fedakârlıktan kaçınmaları

7. Aşağıdaki hadislerden hangisi kadına karşı şiddeti engellemeyi hedefler?

- A) "Sizin en hayırlınız, insanlara en faydalı olanınızdır."
- B) "... Sizin en hayırlınız, kadınlara karşı en iyi davrananınızdır."
- C) "Hiçbir baba çocuğuna güzel terbiyeden daha üstün bir bağışta bulunmamıştır."
- D) "Her biriniz elinizin altındaki-lerden sorumlusunuz. Devlet başkanı halkından ... kişi aile bireylerinden sorumludur..."

1. OTURUM

8. 1925 yılında Meclis'te alınan bir kararla; Kur'an-ı Kerim'in tefsirinin ve mealinin yapılması kararlaştırılmış, tefsir yazma görevi Elmalılı Hamdi Yazır'a verilmiştir.

Aynı kararla kendisine meal yazma görevi verilen fakat bu görevi yerine getiremeyeceğini söyleyen âlim aşağıdakilerden hangisidir?

- A) Mehmet Akif Ersoy
- B) Ömer Nasuhi Bilmen
- C) Mehmet Rifat Börekçi
- D) Babanzade Ahmet Naim

9. "Elinizde bir fidan varsa, kıyamet kopmaya başlasa bile, onu dikecek kadar vaktiniz olursa, mutlaka dikin."

Bu hadisten aşağıdaki sonuçlardan hangisi çıkarılamaz?

- A) Evrendeki varlıklar belli bir düzene göre yaratılmıştır.
- B) Müslüman yaşadığı her anı iyi bir şekilde değerlendirmelidir.
- C) Kişi, elindeki imkânları iyilik yönünde sonuna kadar kullanmalıdır.
- D) İslam, çevrenin yeşillendirilmesi ve güzelliğine önem vermektedir.

10. İslam dünyasında İtrî, Dede Efen-di, Hacı Arif Bey isimleri hangi alanda meşhur olmuşlardır?

- A) Mimari
- B) Tezhip
- C) Musiki
- D) Minyatür

11. Aşağıda verilen hadislerden hangisi İslam'ın "Sıla-i rahim"e verdiği önemi dile getirmektedir?

- A) Yakınları ile ilişkisini kesen kimse cennete giremez.
- B) Çocuklarınıza hoşca davranın ve onları güzel terbiye edin.
- C) Küçüklerine merhamet etmeyen, büyüklerine saygı göstermeyen bizden değildir.
- D) Sizin en hayırlınız, kadınlara karşı en iyi davrananınızdır.

12. Hüsnühat sanatı aşağıdaki mimari eserlerin hangisinde daha yoğun olarak kullanılmıştır?

- A) Çeşme
- B) Cami
- C) Şadırvan
- D) Kümbet

13. Aşağıdakilerden hangisi Diyanet İşleri Başkanlığı'nın görevlerinden biri değildir?

- A) Din konusunda toplumu aydınlatmak
- B) İbadet yerlerini yönetmek
- C) İslam dininin inanç, ibadet ve ahlâk esasları ile ilgili işleri yürütmek
- D) İmam Hatip Liselerini açmak ve yönetmek

14. "Rabb'in sadece kendisine kulluk etmenizi, anne ve babanıza iyi davranmanızı kesin bir şekilde emretti. Onlardan biri veya her ikisi senin yanında yaşlanırsa, kendilerine 'öf' bile deme; onları azarlama; ikisine de güzel söz söyle." (İsrâ suresi, 23. ayet)

Bu ayetten aşağıdakilerden hangisi çıkarılamaz?

- A) Anne ve babaya saygılı davranmalı
- B) Anne ve babaya güzel söz söylemeli
- C) Anne ve babanın ihtiyaçlarını gidermeli
- D) Anne ve babanın her dediğine itaat etmeli

15. Kur'an-ı Kerim'i iyi kavrayan bir kişiden aşağıdaki davranışlardan hangisi beklenmez?

- A) Hayatın güzelliklerini anlayabilir.
- B) Yaratılıştaki hikmeti fark eder.
- C) Dünyayı bırakıp sadece ahirete çalışır.
- D) Çevresindeki olup bitenlere duyarlı olur.

16. İlk Diyanet İşleri Başkanı aşağıdakilerden hangisidir?

- A) Ali BARDAKOĞLU
- B) M. Rifat BÖREKÇİ
- C) Mehmet GÖRMEZ
- D) Mehmet Nuri YILMAZ

17. Aşağıdakilerden hangisi tasavvuf edebiyatının önemli isimlerinden biri değildir?

- A) Hacı Bayram-ı Veli
- B) Süleyman Çelebi
- C) Hamit Aytaç
- D) Yunus Emre

- 18. • Yahudilikte evlilik dini bir gerekliliktir.
- Hristiyanlıkta iffeti korumanın ve nesli sürdürmenin yolu evlilikten geçer.
- Hinduizm'de evlilik kadın ile erkek arasında ölüme kadar süren bir anlaşmadır.
- İslam'da evlilik hem neslin devam etmesi için bir vesile hem de kişiyi günahlardan koruyan bir vasitadır.

Bu açıklamalara göre aşağıdakilerden hangisi doğrudur?

- A) İlahi dinlerde boşanma haramdır.
- B) Farklı din ve inançlarda evlilik vardır ve teşvik edilmiştir.
- C) Evliliğin tek amacı neslin korunmasıdır.
- D) Bütün dinlerde evlilik zorunlu tutulmuştur.

19. "Bayram ve Cuma namazlarında, insanları dini konuda aydınlatmak ve onlara dini mesajlar vermek amacı ile camilerde yapılan konuşmaya" **ne ad verilir?**

- A) Dua
- B) Mevlid
- C) Nasihat
- D) Hutbe

20. Aşağıdakilerden hangisi ailede çocuğa kazandırılması gereken davranışlardan biri değildir?

- A) Bencilik ve duyarsızlık
- B) Görev ve sorumluluk
- C) Sevgi ve merhamet
- D) Şefkat ve hoşgörü

(117) DİN KÜL. AHL. BİL. – 7

1. Sünnet'in evrenselliği aşağıdaki ifadelerin hangisinde dile getirilmiştir?

- A) Peygamber'in ahlâkını yansıtmaması
- B) Müslümanların problemlerini çözmesi
- C) İçerdiği mesajların tüm insanlığa yönelik olması
- D) Peygamberin söz, fiil ve takrirlerinden oluşması

1. OTURUM

2. Aşağıdaki meleklerden hangisi Sûr'a üflemeyle görevlidir?

- A) Cebrail B) Mikâil
C) Azrail D) İsrail

3. "Divan-ı Hikmet" isimli eser aşağıdaki mutasavvıflardan hangisine aittir?

- A) Abdulkadir Geylani
B) Hoca Ahmet Yesevî
C) Bahaeddin Nakşibend
D) Mevlana Celaledin Rumi

4. "Dünya, ahiretin tarlasıdır." Bu hadiste verilmek istenen mesaj aşağıdakilerden hangisidir?

- A) Dünya, ahiretten daha önemlidir.
B) Dünyada yapılanlar dünyada kalır.
C) Davranışların karşılığını Allah, dünyada verir.
D) Yapılan her şeyin karşılığı ahirette görülecektir.

5. İnsanların ahirette hesap vermeye üzere toplanacakları yere - - - -, sevap ve günahların tartılacağı manevi adalet terazisine de - - - - denir.

Metinde boş bırakılan yerlere aşağıdakilerden hangileri getirilmelidir?

- A) mizan-haşır
B) kabir-sırat
C) mahşer-mizan
D) ba's-sırat

6. Tövbe ile ilgili aşağıda verilenlerden hangisi doğru değildir?

- A) İyiliğe yönelmez.
B) Belirli mekânlara mahsustur.
C) Hatadan vazgeçmez.
D) Günahlara pişman değildir.

7. Aşağıdakilerden hangisi tasavvufun amaçlarından biri değildir?

- A) İnsanın ahlâkî yönden gelişmesi ve olgunlaşması
B) Yapılan işlerde samimiyet ve ihlasın yakalanması
C) İnsanların refah düzeyinin yükseltilmesi
D) Allah'ın hoşnutluğunun kazanılması

8. Peygamberimiz, Ramazan ayı dışında tutulan en faziletli oruç olarak aşağıdaki hangi aya işaret etmiştir?

- A) Recep B) Şaban
C) Muharrem D) Rebiulevvel

9. Aşağıdakilerden hangisi Kerbela'da şehit edilmiştir?

- A) Hz. Hasan
B) Zeynü'l Âbidin
C) Hz. Ali
D) Hz. Hüseyin

10. Hz. Ali'nin öğütlerinin, hutbelerinin ve güzel sözlerinin bir araya getirildiği eser aşağıdakilerden hangisidir?

- A) Nehcü'l- Belâğa
B) Velâyetname
C) Marifetnâme
D) Mesnevî

11. Alevi - Bektaşî düşüncesinde "dua" anlamını ifade eden terim aşağıdakilerden hangisidir?

- A) Gülbenk B) Semah
C) Musahiplik D) Cem

12. "Camii's-Sahih" adlı eser aşağıdaki âlimlerden hangilerine aittir?

- A) Buhari-Tirmizi
B) Buhari-Müslim
C) Müslim-Ebu Davud
D) Tirmizi-İbni Mace

13. Aşağıdaki hadis alimlerinden hangisinin eseri "Kütübü Sitte" içinde yer alır?

- A) İmam Malik
B) Buhari
C) Ahmet bin Hanbel
D) Darimi

14. Ahirete inanan bir kişide aşağıdakilerden hangisinin azalması beklenir?

- A) İç huzurun
B) Güzel davranışların
C) Hırs ve bencilliğin
D) Sorumluluk duygusunun

15. "İnsanoğlunun her biri hata yapabilir. Ancak hata yapanların en hayırlısı - - - -"

Bu hadiste boş bırakılan yere aşağıdakilerden hangisi getirilmelidir?

- A) affedici olanlardır.
B) tövbe edenlerdir.
C) hatalarını gizleyenlerdir.
D) küçük günah işleyenlerdir.

16. Sünnet ile ilgili aşağıda verilen bilgilerden hangisi doğrudur?

- A) Evrensel mesajlar içermez.
B) Hüküm koyma yetkisi yoktur.
C) Müslümanların birinci kaynağıdır.
D) Hz. Peygamber'in söz, fiil ve takrirleridir.

17. Aşağıdakilerden hangisi cenaze namazında yer almaz?

- A) Tekbir B) Selam
C) Secde D) Niyet

18. Aşağıdakilerden hangisi hoşgörü ortamının oluşmasına zarar veren davranışlardan biridir?

- A) Başışlamak
B) Kusurları örtmek
C) Merhametli olmak
D) Hataları yüze vurmak

19. Aşağıdakilerden hangisi İslam'a göre insanın sorumlu tutulacağı konulardan biridir?

- A) Din B) İrk
C) Dil D) Cinsiyet

20. Ahirete inanan kişiden aşağıdaki davranışlardan hangisini yapması beklenir?

- A) Başkalarına zarar vermekten kaçınması
B) Özel hayatın gizliliğini ihlal etmesi
C) Haktan ve adaletten ayrılması
D) Allah'a itaatten uzaklaşması

1. OTURUM

(118) DİN KÜL. AHL. BİL. – 8

1. Hristiyanlıktaki tanrı inancını aşağıdakilerden hangisi ifade etmektedir?

- A) Hac B) Vaftiz
C) Teslis D) Sakrament

2. Cumhuriyet döneminde yazılan "Sahihi Buhari Muhtasarı ve Tecridi Sarih Tercemesi" adlı eserin konusu aşağıdakilerden hangisidir?

- A) Tefsir B) Hadis
C) Kelam D) Dinler Tarihi

3. Aşağıdakilerden hangisi Medine Sözleşmesi ve Hudeybiye Antlaşması'nın ortak özelliğidir?

- A) İslam'ın barışa önem vermesi
B) İslam'ın gerektiğinde savaşmaya izin vermesi
C) İslam'ın yabancı milletlere üstünlük sağlaması
D) İslam'ın din olarak üstünlüğünü kabul ettirmesi

4. • Kurucusunun asıl adı Siddhartha Gautama'dır.
• Kutsal metinleri "Tipitaka" diye isimlendirilir.
• Kutsal mekanları "Pagoda"dır.

Yukarıda özellikleri verilen din hangisidir?

- A) Caynizm B) Taoizm
C) Sihizm D) Budizm

5. • Hinduizmin tanrı anlayışına, kast sistemine ve din adamları otoritesine karşı çıkmıştır.
• İslam dininin tevhit inancından etkilenmiştir.
• Kurmuş olduğu dinin taraftarlarına "Sih" adı verilmiştir.

Yukarıda hakkında bilgisi verilen dinin kurucusu kimdir?

- A) Guru Nanak
B) Vardhamana
C) Lao Tzu
D) Konfüçyüs

6. Aşağıdakilerden hangisi İslam dinince kutsal kabul edilen "Üç Aylar"dan biri değildir?

- A) Receb B) Şaban
C) Muharrem D) Ramazan

7. • Mescidü-l Haram
• Süleyman Mabedi
• Meryem Ana Evi

Yukarıdaki kavramlar ilahi dinlerdeki hangi ibadetle ilişkilendirilebilir?

- A) Oruç B) Hac
C) Zekat D) Kurban

8. "Yaratılanı hoş gör, Yaradan'dan ötürü."

Yunus Emre'nin bu sözünde aşağıdakilerden hangisi vurgulanmıştır?

- A) Kendini üstün görmemek
B) Akraba ve yakınları gözetmek
C) İnsanlar arasında adil davranmak
D) Varlıklara sevgi ve merhametle yaklaşmak

9. İslam dinine göre insandaki "bir yaratıcıya inanma duygusu" ne reden gelir?

- A) Doğuştan
B) Çevreden
C) Eğitimden
D) Anne-babadan

10. Kur'an-ı Kerim hakkında aşağıdaki bilgilerden hangisi yanlıştır?

- A) 23 senede ayet ayet indirilmiştir.
B) İlk suresi Bakara, son suresi ise İhlas'tır.
C) Son ilahi kitaptır ve mesajları evrenseldir.
D) Ayetleri vahiy kâtipleri tarafından yazıya geçirilmiştir.

11. "Ey insanlar! Rabb'iniz birdir, babanız da birdir. Hepiniz Âdem'in çocuklarıdır."

Bu hadiste vurgulanan mesaj aşağıdakilerden hangisidir?

- A) Kardeşlik bilinci içinde yaşamak
B) Akrabalık bağlarını güçlendirmek
C) Allah'a inanmayanlarla ilişkileri kesmek
D) Anne babaya hürmet ve saygı göstermek

12. "Gel, ne olursan ol yine gel."
(Mevlana)
"Sakin ol, kimsenin gönlünü yıkma."
(Hacı Bektaşî Veli)
"Sana kötülük edenlere sen iyilik et."
(Cabbar Kulu)

Verilen sözlerin ortak konusu aşağıdakilerden hangisidir?

- A) Yardımlaşma
B) Komşulara iyi davranma
C) Sevgi, barış ve kardeşlik
D) Akraba ve yakınları gözetme

13. Aşağıdakilerden hangisi, Hz. Musa'ya indirilen On Emir'den biri değildir?

- A) Putlara tapmayacaksın.
B) Anne ve babana hürmet edeceksin.
C) Pazar gününe hürmet göstereceksin.
D) Komşuna karşı yalan şahitlik yapmayacaksın.

14. Aşağıdakilerden hangisi İslam dininin temel özelliklerinden biri değildir?

- A) Mesajları evrenseldir.
B) Tevhit inancına dayalıdır.
C) Ruhbanlık kabul edilmez.
D) İnsanların günahkâr olduklarına inanılır.

15. Aşağıdakilerden hangisi Hz. Muhammed (sav.)'in peygamberlikten önce de "barış elçisi" olduğuna örneklerdir?

- A) Mekke'nin fethi sonrasında af uygulaması
B) Medine Sözleşmesi'ni imzalaması
C) Hudeybiye Antlaşması'nı yapması
D) Hilfu'l-Fudul'a üye olması

16. Hz Adem (as)' den Hz. Muhammed (sav.)'e kadar gönderilen peygamberlerin insanlara öğrettikleri inanca ne ad verilir?

- A) Teslis B) Tebliğ
C) Tevhit D) Tevekkül

1. OTURUM

17. Aşağıdakilerden hangisi Atatürk'ün din ile ilgili görüşlerinden biri değildir?

- A) Din milletimizi bir arada tutan önemli bir unsurdur.
- B) Din doğru anlaşılıp doğru bir şekilde anlatılmalıdır.
- C) Din bilginleri ilmi yeterliliğe sahip olmalıdır.
- D) Din eğitimi medreselerde verilmelidir.

18. Aşağıdaki ibadetlerden hangisi dünya Müslümanlarının birlik ve beraberliğini daha çok sembolize eder?

- A) Namaz
- B) Hac
- C) Oruç
- D) Zekât

19. Aşağıdakilerden hangisi Kast sistemindeki "din adamları" sınıfını ifade etmektedir?

- A) Brahmanlar
- B) Kşatriyalar
- C) Vaisyalar
- D) Sudralar

20. • İbadet esnasında Kudüs'e dönülür.
• Mabetlerde kadınlar ayinlere katılamazlar.
• İbadet sırasında erkekler başlarına kipa alırlar.

Verilen bilgiler aşağıdaki dinlerden hangisiyle ilgilidir?

- A) Budizm
- B) Hinduizm
- C) Yahudilik
- D) Hristiyanlık

(121) FELSEFE – 1

1. Aşağıdakilerden hangisi gündelik bilgiye örnektir?

- A) Papatya suyu öksürüğe iyi gelir.
- B) Ay dünyanın uydusudur.
- C) Üçgenin iç açılarının toplamı 180° dir.
- D) Dünya hem kendi ekseninde etrafında hem de güneşin etrafında döner.

2. Felsefe ulaştığı sonuçları temellendirmeye çalışırken, olgulara değil, mantıksal analize yönelir. Filozof ortaya koyduğu bilginin güvenilirliğini iç tutarlılığa bakarak denetler.

Buna göre iç tutarlılık kavramının açıklaması aşağıdakilerden hangisidir?

- A) Dünyayı ve insan yaşamını anlayabilme
- B) Çelişkili düşünceye yer vermemeye
- C) Olaylara objektif bakabilme
- D) Eleştirel tavrı benimseme

3. I. Deneye dayanma
II. Olgusal olma
III. Akla dayanma
IV. Dünyayı ve insan yaşamını yorumlama

Verilenlerden hangileri felsefeyle bilimin ortak yönleridir?

- A) I ve II.
- B) II ve III.
- C) III ve IV.
- D) II, III ve IV.

4. Bilginin kaynağını, ilkelerini, yöntemini ve çeşitli bilgi türlerini araştıran felsefe dalı aşağıdakilerden hangisidir?

- A) Ahlak felsefesi
- B) Sanat felsefesi
- C) Bilim felsefesi
- D) Bilgi felsefesi

5. Dayanak sunma, gerekçelendirme anlamına gelen kavram bilgi felsefesinde aşağıdakilerden hangisiyle ifade edilir?

- A) Bilgi
- B) Doğruluk
- C) Temellendirme
- D) Özne

6. Aşağıdaki düşünce akımlarından hangisinin anlamı yanlış verilmiştir?

- A) Emprizm - Akılcılık
- B) Pozitivizm - Olguculuk
- C) Septisizm - Kuşkuculuk
- D) Pragmatizm - Faydacılık

7. Sofistlere göre bilginin kaynağı duyumlardır, duyum ve algılar ise öznedir. Bu yüzden herkesin kabul etmesi gereken genel geçer doğrular yoktur.

Buna göre sofistlerin bilgiyle ilgili görüşü aşağıdakilerden hangisidir?

- A) Alginın nesnel olduğu
- B) Bilginin göreceli olduğu
- C) Deney bilgisinin doğru olduğu
- D) Bilginin akıl yoluyla elde edildiği

8. Bilginin kaynağını duyu, akıl, nazar olarak açıklayan, sezgiyi doğru bilgiye ulaşma aracı olarak gören filozof aşağıdaki akımlardan hangisine dahil olabilir?

- A) Empirizm
- B) Kritisizm
- C) Entüsyonizm
- D) Rasyonalizm

9. Kant'a göre "deneysiz kavramlar boş, deneyden gelen hammadde ise kavramlar olmaksızın kördür."

Kant bu sözleyle hangi düşünceleri birleştirmeye çalışmıştır?

- A) Akılcılık - Deneycilik
- B) Kuşkuculuk - Akılcılık
- C) Olguculuk - Deneycilik
- D) Faydacılık - Kuşkuculuk

10. John Locke'a göre insan zihni dünyaya boş bir levha (tabula rasa) olarak gelir. Tüm bilgilerimizin kaynağı deney ve alışkanlıklardır. İnsan zihninde, doğuştan gelen hiçbir bilgi ve düşünce yoktur.

Aşağıdakilerden hangisi John Locke'un düşüncesini dile getirir?

- A) Öğretmen yeni bir şey öğretmez, ancak akılda var olan bilgileri gün ışığına çıkarır.
- B) Başlangıçta boş olan zihin, deneyden gelen verilerle dolar.
- C) Tartışarak zihindeki bilgileri açığa çıkarabiliriz.
- D) İnsan zihni doğuştan bilgi ile donatılmıştır.

1. OTURUM

11. İbni Sina felsefe dışında aşağıdaki alanlardan hangisinde çalışmalar yapmıştır?

- A) Coğrafya B) Astronomi
C) Tarih D) Tıp

12. • Bilim bir üründür.
• Bilim bir etkinliktir.

Verilenler bilim felsefesinin aşağıdaki sorularından hangisine verilmiş bir cevaptır?

- A) Bilim nedir?
B) Bilimsel yöntem nedir?
C) Bilimin değeri nedir?
D) Bilimsel bilginin özellikleri nelerdir?

13. Herhangi bir bilim dalında yapılan tüm etkinliklerin düzenli ve tutarlı hâle gelmesini sağlayan, belirli bir gerçekliğin algılanmasını ve açıklanmasını mümkün kılan "kavramsal çerçeve" aşağıdaki kavramlardan hangisiyle ifade edilir?

- A) Determinizm
B) Paradigma
C) Öndeyi
D) Deney

14. Bilim adamı kendi kişisel görüş, alışkanlık ve yargılarını araştırmalarına yansıtmemalıdır.

Bu durum bilimsel bilginin hangi özelliğini vurgulamaktadır?

- A) Olgusal olmasını
B) Evrenselliğini
C) Objektif olmasını
D) Yöntemselsel olmasını

15. Olguların saptanması, gözlem, hipotez, deney, kuram

Verilenler aşağıdakilerden hangisinin aşamalarıdır?

- A) Bilimsel yöntemin
B) Bilgi türlerinin
C) Metafizik problemlerin
D) Sanat felsefesinin

16. "Bilim gerçek dünya hakkında araştırma yapma etkinliğidir. Dünyadaki gerçekliğin tek bir bilimi olabilir. Konu alanı dar olan bilimler, konu alanı geniş kapsamlı olan bilimlerle birleştirilebilir." düşüncesi aşağıdakilerden hangisine aittir?

- A) Pragmatizm görüşüne
B) Rasyonalizm görüşüne
C) Bilginin kaynağı problemine
D) Bilim felsefesinde klasik görüşe

17. Aşağıdakilerden hangisi varlık felsefesinin sorularından değildir?

- A) Bilginin kaynağı nedir?
B) Varlığın ana maddesi nedir?
C) Varlık var mıdır?
D) Varlık bir midir?

18. Varlık felsefesinde "hiçbir şeyin olmadığını" savunan görüş aşağıdakilerden hangisidir?

- A) Realizm
B) Nihilizm
C) İdealizm
D) Materyalizm

19. Varlıkları mümkün varlık ve zorunlu varlık olarak ikiye ayırır. Zorunlu varlık Tanrıdır, mümkün varlık ise varlığı Tanrıya bağlı olan tüm varlıklardır.

Görüşleri verilen filozof aşağıdakilerden hangisidir?

- A) Demokritos
B) La Mettrie
C) Hobbes
D) Farabi

20. Descartes'e göre, varlığı meydana getiren cevherlerden "ruh" un fonksiyonu nedir?

- A) Somut olma
B) Düşünme
C) Yer kaplama
D) Görülebilir olma

(122) FELSEFE – 2

1. "Nasıl doğada güçlüler kazanıyorsa, hukukta da adalet güçlüden yana olmalıdır." görüşü aşağıdaki yargılardan hangisine ters düşer?

- A) Doğal hukuk pozitif hukuktan üstündür.
B) Güçlü güçsüzden daha çok şeye sahip olmalıdır.
C) Doğal olan toplumsal olandan daha değerlidir.
D) İdeal düzen insanlar arasında tam bir eşitliğin sağlandığı düzendir.

2. Aşağıdakilerden hangisi ideal düzenin eşitlikle kurulabileceğini savunan yaklaşıma ait bir görüş olamaz?

- A) Eşitlik sağlandığında özgürlük de sağlanacaktır.
B) Üretim araçları toplumun ortak mülkiyeti olmalıdır.
C) Eşitlik insanların kendilerini geliştirmelerine engel olur.
D) Eşitsizlik toplumun ve devletin bütünlüğünü tehlikeye atar.

3. Aşağıdaki ütopyalardan hangisi teknolojinin olumsuz etkisine karşı insanları uyarma amacı taşımaktadır?

- A) Ütopya
B) Yeni Dünya
C) Güneş Ülkesi
D) Erdemli toplum

4. Aşağıdakilerden hangisi "Güzellik nedir, ortak bir güzellik anlayışı var mıdır?" gibi soruları yanıtlamaya çalışır?

- A) Estetik B) Ontoloji
C) Psikoloji D) Epistemoloji

5. Sanat eseriyle ilgili aşağıdakilerden hangisi söylenemez?

- A) Tektir, aynısı tekrarlanamaz.
B) Tanrı yaratımı olan ürünlerdir.
C) Değerlere ilişkin mesajlar verebilirler.
D) Alımlayıcısında estetik bir duygu oluşturur.

1. OTURUM

6. Aşağıdakilerden hangisi sanatı “yaratma” olarak açıklayan düşünceye ait bir görüştür?

- A) Sanat insanı kaygılardan uzaklaştırır.
- B) Sanatçı eserinde ideaları yansıtmalıdır.
- C) Sanatçı yaratıcı gücünü kullanarak sanat eserini oluşturur.
- D) İnsan ancak sanat eserinde tam olarak özgürlüğe kavuşur.

7. Estetik yargıların kişiden kişiye değişmesinin temel nedeni aşağıdakilerden hangisidir?

- A) Beğenilerin farklı olması
- B) Sanat eserlerinin kalıcı olması
- C) Estetik yargıların zamanla değişebilmesi
- D) Doğa ile sanattaki güzelin aynı olmaması

8. Aşağıdakilerden hangisi din felsefesinin ele aldığı, Tanrı'nın varlığı ile ilgili sorulardan değildir?

- A) Tanrı var mıdır?
- B) Ölüm bir son mudur?
- C) Tanrı'nın varlığı kanıtlanabilir mi?
- D) Tanrı içkin midir, yoksa aşkın midir?

9. Bu kanıtlamaya göre, tüm insanlar iyilik yapmaya eğilimlidir. Bu yasa öğrenilmemiştir. Vicdanlarımızda hazır olarak bulunur. Bunu insanlara kazandıran da Tanrı'dır.

Yukarıda Tanrı'nın varlığı ile ilgili kanıtlardan hangisi açıklanmıştır?

- A) Erekllilik kanıtı
- B) Ontolojik kanıt
- C) Kozmolojik kanıt
- D) Ahlaki kanıt

10. Tanrı'nın varlığını kabul etmekle birlikte, evreni yaratıp bir daha müdahale etmediğini savunan bu yüzden de kutsal kitap, vahiy, peygamber gibi kavramları reddeden görüş aşağıdakilerden hangisidir?

- A) Teizm
- B) Deizm
- C) Panteizm
- D) Agnostisizm

11. İnsan eylemlerini ve bu eylemlerin dayandığı ilkeleri konu alan, iyi-kötü kavramlarını işleyen felsefe dalı aşağıdakilerden hangisidir?

- A) Bilgi felsefesi
- B) Ahlak felsefesi
- C) Siyaset felsefesi
- D) Varlık felsefesi

12. Aşağıdakilerden hangisi ahlâk felsefesinin temel sorularındandır?

- A) Ahlaki eylemin bir amacı var mıdır?
- B) Bilginin kaynağı nedir?
- C) Ruh ölümsüz müdür?
- D) Ortak estetik yargılar var mıdır?

13. • İnsan ahlaki eylemde bulunurken tamamen kendi iradesiyle özgür bir biçimde mi davranır?
• İnsan eylem ve kararlarında iç ve dış faktörlerin etkisi altında mıdır?

Ahlak felsefesinde bu sorular aşağıdakilerden hangisini belirlemeye yöneliktir?

- A) İnsanın özgürlük sorununu
- B) En yüksek iyinin ne olduğunu
- C) Ahlaki eylemin amacını
- D) Evrensel ahlak yasasının varlığını

14. Sokrates'e göre ahlaki eylemin kaynağı bilgidir. Bilgi bizi doğru eyleme, bilgisizlik ise yanlış eyleme götürür.

Buna göre aşağıdakilerden hangisi Sokrates'in görüşüne uygundur?

- A) İnsan bilgiyi çıkarına kullanmalıdır.
- B) Doğru eylemin ölçütü bilgidir.
- C) Bilgi insanı mutsuzlaştırır.
- D) İnsanlar kuralsız yaşamalıdır.

15. “Kendi sezgine uy ki, hem kendin hem de başkası için iyi olanı yapmış olasan” düşüncesini ahlâk anlayışında savunan ve sezgiciliğin kurucusu olan filozof hangisidir?

- A) J. Bentham
- B) T. Hobbes
- C) H. Bergson
- D) J. Locke

16. I. Hazcılık
II. Anarşizm
III. Yararcılık

Verilenlerden hangileri evrensel ahlak yasasının varlığını reddeden yaklaşımlardır?

- A) Yalnız I
- B) I ve II.
- C) II ve III.
- D) I,II ve III.

17. Aşağıdakilerden hangisi, ahlak yasasını tasavvuf düşüncesinde temellendiren düşünürlerden değildir?

- A) Mevlana
- B) Hobbes
- C) Yunus Emre
- D) Hacı Bektaş Veli

18. Aşağıdakilerden hangisi siyaset felsefesinin sorularından değildir?

- A) İktidar kaynağını nereden alır?
- B) Bireyin temel hakları nelerdir?
- C) Meşruiyetin ölçütü nedir?
- D) İyi nedir?

19. Max Weber'e göre, kaynağını yazılı hukuk kurallarından aldığı ve bu kuralların yönetilenleri olduğu gibi yönetenleri de bağladığı otorite biçimi aşağıdakilerden hangisidir?

- A) Geleneksel otorite
- B) Karizmatik otorite
- C) Demokratik otorite
- D) Despotizm

20. Aşağıdakilerden hangisi bireyin siyasal haklarından?

- A) Seçme ve seçilme hakkı
- B) Özel mülkiyet hakkı
- C) Yaşama hakkı
- D) Sağlık hakkı

1. OTURUM

(131) TARİH – 1

1. Bir tarihî olaya dâhil olan kişilerin, olaydaki rollerini ve olaya katkılarını doğru olarak anlayıp değerlendirebilmek için, aşağıdakilerden hangisinin göz ardı edilmemesi gerekir?

- A) Olayın, başka olaylarla benzer yönleri
- B) Olaylarla ilgili yapılan yorumlar
- C) Olayın geçtiği zamanın koşulları
- D) Olayın hangi kıtada gerçekleştiği

2. Herodot'un tarih biliminin öncüsü olarak kabul edilmesinde, aşağıdakilerden en çok hangisinin etkili olduğu savunulabilir?

- A) Eski Çağ'da yaşamış olmasından
- B) Olayların geçtiği yerleri gezip görmesinden
- C) Tarihî olayları kronolojik olarak sıralamasından
- D) Eserini araştırarak ve yansız olmaya çalışarak yazmasından

3. İlk şehir devletleri, aşağıdaki dönemlerin hangisinde ortaya çıkmıştır?

- A) Tunç Devri
- B) Demir Devri
- C) Neolitik Devir
- D) Mezolitik Devir

4. I. Tarihî olay ile ilgili verileri sınıflandırma
II. Verileri zaman, yer ve konularına göre ayırma
III. Elde edilen bilgi ve verilerin kaynak değeri açısından yeterli olup olmadığını belirleme

durumlarından hangileri tarih biliminin yöntemleri arasında gösterilebilir?

- A) Yalnız I
- B) Yalnız III
- C) I ve II.
- D) I, II ve III.

5. Okunuşu "Milattan sonra 7. yüzyılın 1. yarısının 2. çeyreği" olan yıl, aşağıdakilerden hangisidir?

- A) MS 719
- B) MS 751
- C) MS 626
- D) MS 691

6. Aşağıdakilerden hangisi tarih araştırmalarında kullanılan "yazılı" kaynaklardan biri değildir?

- A) Paralar
- B) Efsaneler
- C) Anallar
- D) Biyografiler

7. Çin uygarlığının oluşmasında etkili olan kültürler, aşağıdakilerin hangisinde birlikte verilmiştir?

- A) Tibet - Rus - Arap
- B) Türk - Moğol - Tibet
- C) Moğol - Hint - Afgan
- D) Türk - Japon - Kore - Arap

8. Aşağıdakilerden hangisi, Mezopotamya devletlerindeki toplumsal sınıflardan biri değildir?

- A) Hürler
- B) Soylular
- C) Köleler
- D) Aristokratlar

9. Firavun II. Ramses, Kuzey Suriye'yi ele geçirmek için uzun yıllar aşağıdaki devletlerden hangisiyle mücadele etmiştir?

- A) Hitit
- B) Babil
- C) Sümer
- D) Bizans

10. Aşağıdaki şehirlerden hangisi Fenikeliler tarafından kurulmuştur?

- A) Biblos
- B) Sayda
- C) Sard
- D) Sur

11. Anadolu uygarlıklarından olan Urartuların başkenti, aşağıdaki şehirlerden hangisidir?

- A) Uruk
- B) Tuşpa
- C) Gordion
- D) Hattuşaş

12. Savaşçı bir topluluk olan İskitler, aşağıdaki dinlerden hangisini benimsemişlerdir?

- A) Budizm
- B) İslamiyet
- C) Gök Tanrı
- D) Zerdüştlük

13. • Asya kökenli kavimlerle Arabistan kökenli Samilerin karışımından oluşan bu kavim, MÖ 2000'lerde Mezopotamya'ya gelmiştir.
• Ninova merkezli kurdukları devletlerini mutlak monarşi ile yönetmişlerdir.
• Kral Yolu üzerinden Anadolu ile ticaret yapmışlar ve kurdukları ticari kolonilerle kullandıkları çivi yazısını Anadolu'ya getirmişlerdir.
• MÖ 609'da Medler ve Babililer birleşerek bu devlete son vermişlerdir.

Hakkında kısa bilgi verilen İlk Çağ uygarlığı, aşağıdakilerden hangisidir?

- A) Amurrular
- B) Asurlular
- C) Akadlar
- D) Akalar

14. I. Kök Türk Devleti'nin kurucusu, aşağıdakilerden hangisidir?

- A) Bumin Kağan
- B) Mukan Kağan
- C) İstemi Yabgu
- D) Mete Han

15. Orhun Yazıtları'nı ilk okuyan bilgin, aşağıdakilerden hangisidir?

- A) Müller
- B) Tonyukuk
- C) Ziya Gökalp
- D) Wilhelm Thomsen

16. İslamiyet'i benimseyen ilk Türk topluluğu olma özelliği, aşağıdakilerden hangisine aittir?

- A) Kimeklere
- B) Kırgızlara
- C) Karluklara
- D) Kumanlara

17. Türkler ilk defa aşağıdaki hangi Türk devleti döneminde Türkiye topraklarına ayak basmışlardır?

- A) Hazar
- B) Uygur
- C) Kıpçaklar
- D) Avrupa Hunları

1. OTURUM

18. Bir Türkmen ozanının;

“Oğuz elinin gitmediği yer var mı, Devlet kurup oturmadığı yer var mı?”

dizeleriyle anlatmak istediği, aşağıdakilerden hangisidir?

- A) Oğuzların birçok coğrafyada birçok devletler kurduğu
- B) Oğuzların İslamiyet'e geçen ilk Türk topluluğu olduğu
- C) Oğuz Yabgu Devleti'ni Oğuzların kurduğu
- D) Oğuz kelimesinin boylar anlamına geldiği

19. Aşağıdaki dinlerden hangisi Türklerde görülmez?

- A) Manihaizm
- B) Musevilik
- C) Şintoizm
- D) Budizm

20. Orta Asya'daki Hun – Çin mücadelelerinin, aşağıdaki eserlerden hangisi ile doğrudan ilişkisi vardır?

- A) Tac Mahal
- B) Çin Seddi
- C) Keops Piramidi
- D) Babil'in Asma Bahçeleri

(132) TARİH – 2

- 1. I. Hattiler
- II. Himyeriler
- III. Tedmürlüleri
- IV. Samaniler

Verilen devletlerden hangileri Arap Yarımadası'nda kurulmuştur?

- A) Yalnız I
- B) I ve II.
- C) II ve III.
- D) I, III ve IV.

2. Hz. Muhammed'in vekili olarak Müslümanların imamlığını ve şeriatın koruyuculuğunu yapmakla görevli olan kimseye ne ad verilir?

- A) Emir
- B) Kadı
- C) Sultan
- D) Halife

3. İslam Devleti'nde ilk hazine (Beyt'ül Mal), aşağıdaki hangi halife döneminde kurulmuştur?

- A) Hz. Ali
- B) Hz. Ömer
- C) Hz. Osman
- D) Hz. Ebu Bekir

4. Endülüs Emevi Devleti, aşağıdaki ülkelerden hangisinde kurulmuştur?

- A) İtalya
- B) Mısır
- C) İspanya
- D) Fransa

5. İslam Devleti'ne, aşağıdaki şehirlerden hangisi başkentlik yapmamıştır?

- A) Şam
- B) Medine
- C) Bağdat
- D) Semerkant

6. Aşağıdakilerden hangisi, Hz. Ali'nin halifeliği döneminde meydana gelmiştir?

- A) Hicret
- B) Hakem Olayı
- C) Zatü's Zavari Savaşı
- D) İran'ın fethinin tamamlanması

7. Hz. Ömer Dönemi'nde fetihler hız kazanmış; Mısır, Suriye, Irak ve İran fethedilmiştir.

Bu durumun İslam Devleti'nde hangi bakımdan değişikliğe neden olduğu iddia edilemez?

- A) Ekonomik
- B) Kültürel
- C) Sosyal
- D) Dinî

8. Talas Savaşı, aşağıdaki devletlerden hangileri arasında meydana gelmiştir?

- A) Emevi - Çin
- B) Abbasi - Çin
- C) Gazneli - Karahanlı
- D) Büyük Selçuklu - Bizans

9. Büyük Selçuklu Devleti'ni kuranlar, aşağıdaki Türk topluluklarından hangisidir?

- A) Avarlar
- B) Gurlular
- C) Oğuzlar
- D) Hazarlar

10. Aşağıdakilerden hangisi İslamiyet'in Türkler üzerinde meydana getirdiği değişime örnektir?

- A) Hukuk sisteminde şer'i kuralların yer alması
- B) Devletin hanedan üyelerinin ortak malı sayılması
- C) Hükümdarın yönetim yetkisini tanrıdan aldığına inanılması
- D) Orduda ve Türkmenler arasında Türkçe konuşulup yazılması

11. Aşağıdaki eserlerden hangisi İslami Türk edebiyatının sözlü ürünlerindedir?

- A) Divan-ı Hikmet
- B) Atabetü'l Hakayık
- C) Divan-ı Lügat-it Türk
- D) Satuk Buğra Han Destanı

12. Aşağıdaki devletlerden hangisi Büyük Selçuklu Devleti ile çağdaş değildir?

- A) Emeviler
- B) Gazneliler
- C) Karahanlılar
- D) Harzemşahlar

13. Büyük Selçuklu Devleti'nin Bizans'a karşı kazandığı ilk büyük zafer, aşağıdakilerden hangisidir?

- A) Ankara
- B) Pasinler
- C) Malazgirt
- D) Dandanakan

14. Aşağıdakilerden hangisi Haçlı Seferleri'nin sonuçlarından biri değildir?

- A) Akdeniz'de ticaret gelişti.
- B) Din adamlarına olan güven sarsıldı.
- C) Anadolu'nun kapıları Türklere açıldı.
- D) Avrupalılar pusula, barut ve kâğıt yapımını Müslümanlardan öğrendi.

15. Abbasi halifesi en Nasır li-Dinillah tarafından kurulan dinî – iktisadi teşkilat, aşağıdakilerden hangisidir?

- A) Fütüvvet
- B) Tasavvuf
- C) Lonca
- D) Ahi

1. OTURUM

16. Hoca Ahmet Yesevi'nin yazdığı ve İslam'ın esaslarını Türkçe olarak öğretmeye çalıştığı eseri, aşağıdakilerden hangisidir?

- A) Kutadgu Bilig
- B) Divan-ı Hikmet
- C) Atabetü'l Hakayık
- D) Divan-ı Lügat-it Türk

17. Türkiye Selçuklu askerleri tarafından kuşatmalarda kullanılan neft, aşağıdaki hangi Anadolu şehirlerinden çıkarılıyordu?

- A) Sivas ve Nevşehir
- B) Konya ve Aksaray
- C) Erzurum ve Antalya
- D) Sinop ve Kastamonu

18. Aşağıdakilerden hangisi III. Haçlı Seferleri'nin sonuçlarından biridir?

- A) Kudüs'ün Müslümanların elinde kalması
- B) İstanbul'da bir Latin İmparatorluğu'nun kurulması
- C) Urfa, Antakya, Şam, Sur ve Yafa'da kontlukların kurulması
- D) Türkiye Selçuklularının başkentlerini İznik'ten Konya'ya taşıması

19. Aşağıdaki Türkiye Selçuklu hükümdarlarından hangisinin döneminde Kırım'daki Suğdak limanı ele geçirilmiştir?

- A) II. Kılıç Arslan
- B) I. İzzettin Keykavus
- C) I. Alâeddin Keykubat
- D) II. Gıyaseddin Keyhüsrev

20. İslam kökenli kitap bezeme sanatı, aşağıdakilerden hangisidir?

- A) Hat
- B) Çini
- C) Kakma
- D) Tezhip

(133) TARİH – 3

1. Osmanlı Devleti'ni kuran Osmanlı ailesi, Oğuzların hangi boyuna mensuptur?

- A) Bayındır
- B) Bayat
- C) Kınık
- D) Kayı

2. Aşağıdakilerden hangisi, Osmanlı Beyliği'nin kısa sürede gelişmesini sağlayan nedenlerden biri değildir?

- A) Başarılı bir iskân siyaseti uygulanması
- B) Kurulduğu bölgenin coğrafi konumunun elverişli olması
- C) Egemenlikleri altındaki milletlere baskıcı yönetim uygulamaları
- D) Başlangıçta Anadolu Türk beylikleri arasındaki mücadeleye katılmamaları

3. Aşağıdaki yerlerden hangisi Osman Bey Dönemi'nde fethe dilmemiştir?

- A) İnegöl
- B) Bursa
- C) Bilecik
- D) Yarhisar

4. Osmanlı Devleti'ne başkentlik yapmış olan aşağıdaki yerlerden hangisi, Sazlıdere Savaşı sonucunda ele geçirilmiştir?

- A) İstanbul
- B) Bursa
- C) Bilecik
- D) Edirne

5. I. Kıbrıs'ın Fethi
II. Niğbolu Savaşı
III. I. Viyana Kuşatması
IV. Edirne – Segedin Antlaşması

Osmanlı tarihi ile ilgili yukarıda verilen olayların kronolojik sıralanışı, hangi seçenekte doğru verilmiştir?

- A) II - III - IV - I
- B) I - II - IV - III
- C) II - IV - III - I
- D) IV - I - II - III

6. Osmanlı Devleti'nin ikinci kurucusu sayılan Osmanlı padişahı, aşağıdakilerden hangisidir?

- A) I. Mehmet
- B) II. Mehmet
- C) I. Bayezit
- D) I. Murat

7. Osmanlılarda herhangi bir esnafın dükkân açma hakkına ne ad verilirdi?

- A) Gedik
- B) Dirlik
- C) Ağnam
- D) İltizam

8. İslam halifesi, Osmanlı padişahı Yıldırım Bayezit'e "Sultaniiklimirum" (Anadolu'nun Sultanı) unvanını, aşağıdaki hangi başarısından dolayı vermiştir?

- A) İstanbul'u fethetmek için Anadolu Hisarı'nı yaptırması
- B) İstanbul'u kuşatan ilk Osmanlı padişahı olması
- C) Niğbolu'da büyük bir Haçlı ordusunu yenmesi
- D) Anadolu Türk birliğini sağlamaya çalışması

9. Fetret Devri'ne son veren Osmanlı padişahı, aşağıdakilerden hangisidir?

- A) II. Murat
- B) II. Mehmet
- C) Mehmet Çelebi
- D) Yıldırım Bayezit

10. Aşağıdakilerden hangisi, Osmanlıların İstanbul'u fethetmek için yaptığı hazırlıklar arasında sayılamaz?

- A) Rumeli Hisarı'nın inşa edilmesi
- B) Haliç'in girişine kalın zincirlerin çekilmesi
- C) Aşırtma güllerle atacak havan toplarının yapılması
- D) Surları aşmak için yürüyen tekerlekli kulelerin yapılması

11. Osmanlı padişahları "Hüdavendigâr" unvanını, aşağıdaki hangi padişahla birlikte kullanmaya başlamışlardır?

- A) I. Murat
- B) Orhan Bey
- C) II. Mehmet
- D) I. Süleyman

12. Amasra'yı Cenevizlilerden alan Osmanlı padişahı, aşağıdakilerden hangisidir?

- A) Kanuni Sultan Süleyman
- B) Yavuz Sultan Selim
- C) Yıldırım Bayezit
- D) Fatih Sultan Mehmet

13. Osmanlı Devleti Nasuh Paşa ve Serav antlaşmalarını, aşağıdaki devletlerden hangisiyle imzalamıştır?

- A) İran
- B) Rusya
- C) Venedik
- D) Avusturya

1. OTURUM

14. Kalvenizm, aşağıdaki ülkelerin hangisinde resmen mezhep olarak kabul edilmiştir?

- A) İngiltere B) Fransa
C) Almanya D) İsviçre

15. Aşağıdaki bilgilerden hangisi Karlofça Antlaşması ile ilgili değildir?

- A) Kutsal İttifak Devletleri'nden Avusturya, Venedik ve Lehistan ile Osmanlı Devleti arasında 1699 yılında imzalanan bir antlaşmadır.
B) Antlaşma için taraflar arasında İngiltere ve Hollanda arabuluculuk yapmıştır.
C) Osmanlı bu antlaşmayla doğuda en geniş sınırlara ulaşmıştır.
D) Türklerin Avrupa'da ilerleyişi durmuştur.

16. Aşağıdakilerden hangisi ilk Osmanlı – Rus antlaşmasıdır?

- A) Bucaş B) Çehrin
C) Vasvar D) Zıtvatoruk

17. 17. yüzyıl Avrupa'sında ortaya çıkan ve "Bir ülke ne kadar çok madene ve paraya sahipse o kadar zengindir." anlayışı ile özdeşleşen ekonomik anlayış, aşağıdakilerden hangisidir?

- A) Sosyalizm B) Komünizm
C) Liberalizm D) Merkantilizm

18. Osmanlı Devleti'nin ilk resmî tarihçisi aşağıdakilerden hangisidir?

- A) Evliya Çelebi
B) Naima
C) Nef'i
D) İtri

19. Osmanlılarda gelirleri sınır boylarındaki askerlere verilen topraklar, aşağıdakilerden hangisidir?

- A) Paşmaklık B) Mukataa
C) Ocaklık D) Yurtluk

20. Osmanlı donanması, aşağıdaki hangi padişah döneminde Trabzon İmparatorluğu'nu tehdit edecek bir güce ulaşmıştır?

- A) II. Murat B) II. Osman
C) II. Mehmet D) II. Süleyman

(134) TARİH – 4

1. XVIII. yüzyılın ikinci yarısında Dakya Projesi'ni hazırlayan devletler, aşağıdakilerin hangisinde birlikte verilmiştir?

- A) Fransa - Rusya
B) Almanya - İtalya
C) İngiltere - Fransa
D) Rusya - Avusturya

2. "Aydınlanma Çağı" adı verilen yüzyıl, aşağıdakilerden hangisidir?

- A) XVI. yüzyıl B) XVII. yüzyıl
C) XVIII. yüzyıl D) XIX. yüzyıl

3. Karadeniz'in Osmanlıya ait olduğunu belirten en son antlaşma, aşağıdakilerden hangisidir?

- A) Zıstovi Antlaşması
B) Belgrat Antlaşması
C) Ayastefanos Antlaşması
D) Küçük Kaynarca Antlaşması

4. Mora'nın elden çıkması, Osmanlı Devleti'nde aşağıdaki hangi sorunun ortaya çıkmasına sebep olmuştur?

- A) Şark Sorunu
B) Azınlıklar Sorunu
C) Kutsal Yerler Sorunu
D) Mehmet Ali Paşa Sorunu

5. Osmanlı Devleti, Kırım'ın Rusya'ya ait olduğunu aşağıdaki hangi antlaşma ile kabul etmiştir?

- A) Yaş B) Prut
C) Zıstovi D) Küçük Kaynarca

6. Osmanlı Devleti'nde ilk Türk matbaası hangi yıl açılmıştır?

- A) 1718 B) 1727
C) 1730 D) 1740

7. Müsadere usulünü kaldıran Osmanlı padişahı, aşağıdakilerden hangisidir?

- A) III. Selim B) Abdülaziz
C) IV. Murat D) II. Mahmut

8. Amerika Kitası'nı 1492 yılında bularak kıtaya adını veren Americo Vespucci, aşağıdaki hangi ülkenin denizcisidir?

- A) Avusturya B) Fransa
C) İtalya D) Rusya

9. 1829 Edirne Antlaşması'yla bağımsızlığını kazanan devlet, aşağıdakilerden hangisidir?

- A) Karadağ B) Yunanistan
C) Bulgaristan D) Arnavutluk

10. Osmanlı Devleti'ndeki azınlık ayaklanmalarının çıkmasında, Avrupa'da yaşanan aşağıdaki hangi olayın etkisi olduğu savunulabilir?

- A) Rönesans hareketlerinin
B) Reform hareketlerinin
C) Fransız İhtilali'nin
D) Sanayi İnkılabı'nın

11. Aşağıdakilerden hangisi Sanayi İnkılabı'nın sonuçlarından biri değildir?

- A) Pozitif düşüncenin gelişmesi
B) Küçük atölyelerin kapanması
C) Sendikaların kurulması
D) Refahın artması

12. Osmanlı halkı, aşağıdaki dönemlerin hangisinde devlet yönetimine katılmaya başlamıştır?

- A) Lale Devri
B) Kuruluş Devri
C) Tanzimat Devri
D) Meşrutiyet Devri

1. OTURUM

13. Aşağıdaki dağılmayı önleme çabalarından hangisi, yeni Türk devletinin temel taşlarından birini oluşturmuştur?

- A) Batıcılık B) İslamcılık
C) Turancılık D) Osmanlıcılık

14. Tanzimat Fermanı'yla yenilik yapılmayan alan, aşağıdaki hangisidir?

- A) Hukuk B) Tarım
C) Yönetim D) Askerlik

15. Osmanlı Devleti'nde, II. Meşrutiyet Dönemi'nden itibaren Türkcülük akımının güç kazanmasının nedenleri arasında aşağıdakilerden hangisi yoktur?

- A) Müslüman tebaanın isyan eylemlerine kalkışması
B) Osmanlı yöneticilerinin Panturanizm akımından etkilenmeleri
C) Fransız İhtilali'nin yaydığı milliyetçilik akımının etkisini sürdürmesi
D) 19. yüzyıldaki Türk tarihine ilişkin araştırmaların millî bilinç ve kültürü teşvik etmesi

16. Osmanlı Devleti'nin, aşağıdaki antlaşmalardan hangisiyle "dağılma ve parçalanma" dönemine girdiği kabul edilir?

- A) Küçük Kaynarca
B) Karlofça
C) Zıstovi
D) Berlin

17. Sanayi Devrimi, aşağıdaki Osmanlı kurumlarından özellikle hangisini olumsuz yönde etkilemiştir?

- A) Kütüphaneleri
B) Medreseleri
C) Loncaları
D) Mahkemeleri

18. Ermeni Meselesi, aşağıdakilerden hangisi ile ilk kez dünya kamuoyuna ve uluslararası antlaşmalara girmiştir?

- A) Lozan Konferansı
B) Berlin Antlaşması
C) Tanzimat Fermanı
D) Patrona Halil İsyanı

19. Nusret mayın gemisinin gizlice mayınladığı su yolu aşağıdakilerden hangisidir?

- A) Süveyş Boğazı
B) Hürmüz Boğazı
C) İstanbul Boğazı
D) Çanakkale Boğazı

20. Osmanlı Devleti'nin imzaladığı aşağıdaki antlaşmalardan hangisiyle ülkede yeni bir dönemin başladığı kabul edilebilir?

- A) Mondros Ateşkes Antlaşması
B) Kasrı Şirin Antlaşması
C) Zıstovi Antlaşması
D) Yaş Antlaşması

(135) TARİH – 5

1. • Orta Asya'nın en eski kültürüdür.
• Bugünkü Türkmenistan'ın başkenti Aşkabat yakınlarında ortaya çıkarılmıştır.
• Kazılar sonucunda dokuma parçaları, nakışlı seramik parçaları ve süs eşyaları ele geçmiştir.

Bazı özellikleri verilen Orta Asya kültürü, aşağıdakilerden hangisidir?

- A) Anav B) Tagar
C) Karasuk D) Andronova

2. Aşağıdaki bilgilerden hangisi İskitlerle ilgili değildir?

- A) Gök Tanrı inancına sahiptirler.
B) "Bozkırın Kuyumcuları" olarak tanınırlar.
C) Persler tarafından "Sakalar" olarak adlandırılmışlardır.
D) Mezopotamya toprakları, İskitlerin yoğun olarak yaşadığı yerdir.

3. Bir kültürün oluşmasında, aşağıdakilerden hangisinin rolü yoktur?

- A) İnsanların ihtiyaçları
B) Uluslararası antlaşmalar
C) İnsanların doğa ile olan ilişkileri
D) İçinde yaşanılan coğrafyanın özellikleri

4. Aşağıdakilerden hangisi, ilk Türk devletlerinde hükümdarın egemenliğini temsil eden sembollerden biri değildir?

- A) Tuğ B) Otağ
C) Gürz D) Örgin

5. Aşağıdakilerden hangisi Kök Türklere ait bir özellik değildir?

- A) Kitabeler dikmeleri
B) İpek Yolu'nu denetim altına almaları
C) Kendilerine ait bir alfabe oluşturmaları
D) Orta Asya'da kurulmuş ilk Müslüman Türk devleti olmaları

6. Kavimler Göçü sonunda;

- Avrupa'daki kavimlerin birbiriyle karışıp kaynaşması sonucunda bugünkü Avrupa milletlerinin temelleri atılmıştır.
- Batı Roma İmparatorluğu'nun yıkılmasıyla Avrupa'da yaşanan otorite boşluğu, eyaletlerde yönetimi ellerinde bulunduran soyluların bağımsız hareket etmelerine, bu durum da feodalite rejiminin ortaya çıkmasına yol açmıştır.
- Avrupa'ya yerleşen Türkler, burada devletler kurmuşlardır.

Bu sonuçların Avrupa'yı;

- I. siyasal
II. kültürel
III. sosyal
IV. dinsel

açılardan hangisinde etkilediği söylenebilir?

- A) Yalnız I B) I ve IV.
C) I, II ve III. D) II, III ve IV.

1. OTURUM

7. Uygur Devleti'nin kurucusu, aşağıdakilerden hangisidir?

- A) Bilge Kağan
- B) Mukan Kağan
- C) Moyen – Çur Kağan
- D) Kutluk Bilge Kül Kağan

8. Yaklaşık 11. yüzyılın başlarında aşağıdaki toplumlardan hangisinin ülkesi "Türkiye" diye anılmıştır?

- A) Karulukların B) Bulgarların
- C) Macarların D) Peçeneklerin

9. Türk kavimlerinden Kıpçakların X. yüzyılda Oğuzlarla yaptıkları savaşlar, aşağıdakilerden hangisinin konusunu oluşturur?

- A) Manas Destanı'nın
- B) Türeyiş Efsanesinin
- C) Alp Er Tunga Sagusunun
- D) Dede Korkut Hikâyelerinin

10. Aşağıdakilerden hangisi bir Türk topluluğu değildir?

- A) Vandallar B) Kumanlar
- C) Avarlar D) Uzlar

11. İlk Türk devletlerinde hükümdar çocuklarına verilen unvan, aşağıdakilerden hangisidir?

- A) Katun B) Tigin
- C) Yabgu D) Şaman

12. İlk Türk devletlerinde aşağıdakilerden hangisi görülmez?

- A) Onlu sistem
- B) Kut anlayışı
- C) Cihat anlayışı
- D) İkili yönetim sistemi

13. "Orta Asya'da bulunan ve ---- adı verilen yerlerde yapılan arkeolojik kazılar sonucunda ilk Türkler ile ilgili önemli bilgiler öğrenilmiştir."

Verilen bilgi cümlesinin doğru olabilmesi için boş bırakılan yere, aşağıdakilerden hangisi yazılmalıdır?

- A) kut B) kopuz
- C) külliye D) kurgan

14. Bazı tarihçilerce "Orta Çağ", aşağıdaki olaylardan hangisiyle başlar?

- A) İstanbul'un fethiyle
- B) Kavimler Göçü'yle
- C) Yazının bulunmasıyla
- D) Hz. Muhammed'in doğumuyla

15. Aşağıdaki müzik aletlerinden hangisi "Türk Kanunu" anlamındadır?

- A) Kithara B) Kudüm
- C) Obua D) Çevn

16. İlk Türklerin aileye verdiği isim aşağıdakilerden hangisidir?

- A) Oğuş B) Urug
- C) Budun D) Uluş

17. Bizans İmparatorluğu'na giden ilk resmî heyet, aşağıdaki hangi Türk devletine aittir?

- A) Avar B) Uygur
- C) Kök Türk D) Karuluklar

18. Tarihte Hunlarla Çinliler arasındaki mücadelelerin en önemli nedeni, aşağıdakilerden hangisidir?

- A) Çin Seddini inşa etmek
- B) İpek Yolu'na hâkim olmak
- C) Cengiz Yasalarına sahip çıkmak
- D) İslamiyet'i Orta Asya'ya yaymak

19. Aşağıdaki devlet – destan eşleş-tirmesinden hangisi doğrudur?

- A) Uygur - Bozkurt
- B) Kök Türk - Türeyiş
- C) Hun - Oğuz Kağan
- D) Kırgız - Alp Er Tunga

20. Orta Asya'da kurulan ilk Türk devletlerinin yıkılmasında, aşağıdakilerden hangisinin rolü yoktur?

- A) İç isyanların
- B) Kut anlayışının
- C) Çin entrikalarının
- D) Gök Tanrı inancının

(136) TARİH – 6

1. Arabistan Yarımadası ile Afrika Kıtası arasındaki denizin adı, aşağıdakilerden hangisidir?

- A) Akdeniz B) Umman Denizi
- C) Kızıldeniz D) Karayib Denizi

2. Hz. Muhammed, bir dostluk ve saldırmazlık antlaşması olan "Medine Sözleşmesi"ni, aşağıdakilerden hangisiyle yapmıştır?

- A) Sasanilerle
- B) Medineli Yahudilerle
- C) Bizans İmparatorluğu'yla
- D) Suriye'deki Hristiyan Gassanilerle

3. Aşağıdakilerden hangisi Talas Savaşı'nın sonuçları için söyle-nemez?

- A) Çin, Orta Asya'yı egemenliği altına almıştır.
- B) Asya'da İslam - Arap egemenliği başlamıştır.
- C) Türklerle Araplar arasında ticari ilişkiler gelişmiştir.
- D) Araplar, Çinlilerden kâğıt imal etmeyi öğrenmişlerdir.

4. Edip Ahmet Yükneki tarafından yazılan ve içeriğini dinî ve ahlaki konuların oluşturduğu eğitici, öğretici ahlak kitabının adı, aşağıdakilerden hangisidir?

- A) Divan-ı Lügat-it Türk
- B) Atabetü'l Hakayık
- C) Divan-ı Hikmet
- D) Siyasetname

5. Karahanlılar, aşağıdaki hükümdarlarından hangisinin döneminde İslamiyet'i kabul etmişlerdir?

- A) Arslan Bazır
- B) Musa Baytaş
- C) Satuk Buğra Han
- D) Bilge Kül Kadır Han

1. OTURUM

6. Türk - İslam devletlerindeki saray görevlilerinden biri olan "câmedar"ın görevi, aşağıdakilerin hangisinde doğru verilmiştir?
- A) Sarayı korumak
B) Silahhane denilen imalathaneyi yönetmek
C) Hükümdarın atlarına ve sarayda bulunan diğer hayvanlara bakmak
D) Hükümdar ve diğer saray görevlilerinin elbiselerini ve resmi kıyafetlerini hazırlamak
7. Orta Asya'da kurulan ilk Müslüman Türk devleti, aşağıdakilerden hangisidir?
- A) İhsidiler B) Peçenekler
C) Gazneliler D) Karahanlılar
8. Dandanakan Savaşı, aşağıdaki devletlerden hangileri arasında yapılmıştır?
- A) Harzemşah - Büyük Selçuklu
B) Büyük Selçuklu - Gazneli
C) Samanoğulları - Karahanlı
D) Karahanlı - Gazneli
9. Aşağıdaki saray görevlilerinden hangisi ilk Müslüman Türk devletlerinde bulunmaz?
- A) İlbaşı B) Tudun
C) Taştardar D) Serhenk
10. Ünlü şair Firdevsi, yazdığı "Şehname" adlı eserini, aşağıdaki Türk hükümdarlarından hangisine sunmuştur?
- A) Sultan Alparslan'a
B) Satuk Buğra Han'a
C) Gazneli Mahmut'a
D) Celaleddin Harzemşah'a
11. İbn-i Sina'nın aşağıdaki eserlerinden hangisi, Tokatlı Mustafa Bin Ahmet adlı bir doktor tarafından 18. yüzyılda Türkçeye çevrilmiştir?
- A) Eş-Şifa
B) En-Necat
C) Lisân-ül Arap
D) El Kanun fi't - Tıp
12. Aşağıdaki devletlerden hangisinin kurucuları kendilerinin Hz. Fâtıma ve Hz. Ali yoluyla Hz. Peygamber'in soyundan geldiklerini iddia ederler?
- A) Fatimîler B) Samanîler
C) Eyyubiler D) Memlûkler
13. Babür hükümdarı Şah Cihan'ın Agra şehrinde karısı Mümtaz Mahal için yaptırdığı ünlü mimari eserin adı, aşağıdakilerden hangisidir?
- A) Hümayun Türbesi
B) Moti Mescidi
C) Delhi Kalesi
D) Tac Mahal
14. Türk - İslam sanatında ortaya çıkıp gelişen, silindirik ya da çokgen planlı bir gövde üzerine oturan konik veya piramidal bir külahtan oluşan mezar yapılarına ne ad verilir?
- A) Kümbet B) İmaret
C) Nevbet D) Mabet
15. Türk - İslam edebiyatının ilk örnekleri, aşağıdaki devletlerden hangisinin döneminde ortaya çıkmaya başlamıştır?
- A) Babürlüler
B) Gazneliler
C) Karahanlılar
D) Harzemşahlar
16. Türk - İslam devletlerinde hükümdarın oğulları arasında meydana gelen taht mücadelelerine sıkça rastlanırdı.
- Bu durumun temel nedeni, aşağıdakilerden hangisidir?**
- A) Çin'e komşu olunması
B) Merkezî otoritenin güçlü olması
C) Belirli bir veraset sisteminin olmaması
D) Rekabetin güçlü hükümdarlar ortaya çıkarması
17. Selçuklularda şehzadelerin devlet yönetimi konusunda tecrübe kazanmaları için vilayetlere vali olarak tayin edilmeleri sırasında onlara yardımcı olmak üzere yanlarına verilen devlet görevlisi, aşağıdakilerden hangisidir?
- A) İlbaşı B) Yabgu
C) Camedar D) Atabey
18. İlk Türk - İslam devletlerinin Bağdat, Merv, Buhara, Semerkant, Kaşgar, Hotan ve Kansu gibi kentlerinde iktisadi hayatın çok gelişmiş olmasının temel nedeni, aşağıdakilerden hangisidir?
- A) Esnaf teşkilatının gelişmiş olması
B) İpek Yolu üzerinde bulunmaları
C) Tarıma önem vermeleri
D) Çin'e komşu olmaları
19. Eyyubi Devleti'nin yıkılmasıyla aynı topraklarda kurulan yeni devlet, aşağıdakilerden hangisidir?
- A) Memluk B) Fatimî
C) Babür D) Timur
20. • Ünlü bilgin Uluğ Bey'in öğrencisidir.
• Matematik ve astronomi alanlarında çalışmıştır.
• Semerkant Gözlem Evinin müdürlüğünde bulunmuştur.
• Fatih Sultan Mehmet Han Dönemi'nde İstanbul'a gelerek Osmanlı hizmetine girmiştir.
- Hakkında kısa bilgi verilen Türk bilgini, aşağıdakilerden hangisidir?**
- A) Farabi B) Harezmi
C) Ali Kuşçu D) Ali Şir Nevai

1. OTURUM

(141) T.C. İNK. TAR. VE ATA. – 1

1. I. Dünya Savaşı'nda soğuk hava şartları sebebiyle yaklaşık doksan bin Osmanlı askerinin şehit olduğu cephe, aşağıdaki-lerden hangisidir?

- A) Sina B) Kafkasya
C) Galiçya D) Makedonya

2. İtilaf Devletleri, tartışmalı görüşme-lerden sonra I. Dünya Savaşı'nın ilk barış antlaşmasını, aşağıdaki devletlerden hangisiyle imzala-mışlardır?

- A) Almanya B) Avusturya
C) Bulgaristan D) Macaristan

3. I. Boğazları ele geçirmek
II. İstanbul'u işgal edip, Osmanlı'yı savaş dışı bırakmak
III. Rusya'ya ekonomik ve askerî yardım ulaştırmak
IV. Osmanlı Devleti ile Almanya'nın bağlantısını kesmek

İtilaf Devletleri Çanakkale Cephesi'ni, yukarıdakilerden hangilerini gerçekleştirmek amacıyla açmışlardır?

- A) Yalnız I B) I ve II.
C) I, III ve IV. D) I, II, III ve IV.

4. I. Cemiyet-i Akvamın kurulması
II. Avrupa'da monarşi rejiminin güçlenmesi
III. Mandacılığın ortaya çıkması
IV. Kutsal Yerler Sorununun ortaya çıkması

Verilenlerden hangileri I. Dünya Savaşı'nın sonuçlarındandır?

- A) I ve II. B) I ve III.
C) II ve III. D) I, III ve IV.

5. Trablusgarp Savaşı'nı bitiren Uşi Antlaşması'na adını veren "Uşi" kenti, aşağıdaki ülkelerin hangisindedir?

- A) Almanya B) Fransa
C) İsviçre D) İtalya

6. Kuvayimilliyeye Hareketi, başlangıçta hangi devletin Anadolu'daki işgal-lerine karşı bir tepki olarak ortaya çıkmıştır?

- A) Fransa B) Romanya
C) İtalya D) Yunanistan

7. • İşgaller protesto edilecek
• İşgalleri protesto etmek için mitingler düzenlenecek
• Mitingler sırasında Hristiyan hal-ka karşı bir saldırı ve düşmanlık yapılmayacak

Mustafa Kemal, Havza Genelgesi'nde değindiği bu ka-rarlarla, aşağıdakilerden hangi-sini amaçladığı savunulabilir?

- A) Saltanatı kaldırmayı
B) Düzenli orduyu kurmayı
C) Cumhuriyeti ilan etmeyi
D) Millî bilinci uyandırmayı

8. Millî Mücadele Dönemi'nde millî güçler, aşağıdakilerin hangisinde birleştirilmiştir?

- A) Sivas Kongresi'nde
B) Havza Genelgesi'nde
C) Erzurum Kongresi'nde
D) Misakımillî kararlarında

9. Ermeni Sorunu, aşağıdaki han-gi antlaşma ile uluslararası bir sorun hâline gelmiştir?

- A) Sevr B) Berlin
C) Ankara D) Moskova

10. Temsil Heyetinin varlığı, aşağıdaki hangi gelişme ile sona ermiştir?

- A) Büyük Millet Meclisinin açılma-sıyla
B) Tekâlif-i Milliye Emirlerinin yayımlanmasıyla
C) İstanbul'un İtilaf Devletleri'nce işgal edilmesiyle
D) Son Osmanlı Mebusan Meclisinin kapatılmasıyla

11. TBMM Hükûmeti, uluslararası alanda ilk başarısını, aşağıdaki hangi antlaşmayla sağlamıştır?

- A) Uşi B) Kars
C) Gümrü D) Moskova

12. Aşağıdakilerden hangisi, Türkiye Büyük Millet Meclisine karşı çı-kan ayaklanmaların nedenlerin-den biri değildir?

- A) Azınlıkların Avrupa devletlerinin tahriki ile buldukları bölgelerde bağımsız devlet kurmak isteme-leri
B) İstanbul Hükûmetince halkın dinî duygularının istismar edil-mesi
C) Bazı Kuvayimilliyeye birliklerinin halka baskı yapması
D) Amasya Genelgesi'nin yayım-lanmasına gösterilen tepkiler

13. Aşağıdakilerden hangisi, Millî Mücadele'nin Batı Cephesi mu-harebeleri arasında yer almaz?

- A) Kütahya - Eskişehir
B) Çanakkale
C) II. İnönü
D) Sakarya

14. Aşağıdakilerden hangisi ilk meclisin özelliklerindedir?

- A) Mecliste tek bir parti yer almak-tadır.
B) Güçler ayrılığı ilkesi benimsen-miştir.
C) Milletvekillerini Mustafa Kemal seçmiştir.
D) Üyelerinin tamamı Türklerden oluşmaktadır.

15. 22 Haziran 1919'da aşağıdaki-lerden hangisi gerçekleşmiştir?

- A) Erzurum Kongresi toplanmıştır.
B) Amasya Genelgesi yayımlan-mıştır.
C) Sivas Kongresi açılmıştır.
D) Amasya Görüşmesi yapılmış-tır.

1. OTURUM

16. Aşağıdakilerden hangisi Misakımillî’de Elviye-i Selase olarak geçen yerlerden biri değildir?

- A) Kars B) Ardahan
C) Elazığ D) Batum

17. Sevr Antlaşması’na göre Antalya ve Konya yöresi aşağıdaki devletlerden hangisine verilmiştir?

- A) İtalya B) Fransa
C) Rusya D) İngiltere

18. TBMM Hükûmeti Gümrü Antlaşması’nı aşağıdakilerden hangisiyle imzalamıştır?

- A) Fransa B) Yunanistan
C) Ermenistan D) İtalya

19. Türk ordusu, Kurtuluş Savaşı’nın Batı Cephesi’nde yaptığı aşağıdaki savaşların hangisinde başarısız olmuştur?

- A) I. İnönü
B) II. İnönü
C) Sakarya
D) Eskişehir-Kütahya

20. Millî Mücadele Dönemi’nde TBMM Hükûmeti ile Fransa arasındaki savaş, aşağıdaki antlaşmalardan hangisiyle sona ermiştir?

- A) Gümrü B) Ankara
C) Moskova D) Kars

(142) T.C. İNK. TAR. VE ATA. – 2

1. Saltanatın ve halifeliğin kaldırılmasının temel amacı, aşağıdakilerden hangisidir?

- A) Cumhuriyeti ilan etmek
B) Çok partili yapıya geçmek
C) Devlet düzenini laikleştirmek
D) Osmanlı hanedanını yurt dışına çıkarmak

2. Mustafa Kemal Paşa’yı cumhurbaşkanlığına, aşağıdakilerden hangisi seçmiştir?

- A) TBMM
B) Bakanlar Kurulu
C) Türk Silahlı Kuvvetleri
D) Halkoyulmasına katılan Türk halkı

3. Cumhuriyetin ilk yıllarında gerçekleşen olaylardan bazıları şunlardır:

- Menemen Olayı
- İzmir Suikastı
- Şeyh Sait İsyanı

Bu olayların ortak özelliği için, aşağıdakilerden hangisi söylenebilir?

- A) Dinî hareketler olmaları
B) İnkılaplara karşı olmaları
C) Çok partili demokratik yaşama karşı olmaları
D) Halkın çoğunluğu tarafından desteklenmeleri

4. Şeyh Sait Ayaklanması, aşağıdaki durumlardan hangisine yol açmıştır?

- A) Terakkiperver Cumhuriyet Fırkasının kapatılmasına
B) Menemen Olayı’nın ortaya çıkmasına
C) Tekke ve zaviyelerin kapatılmasına
D) Halifeliğin kaldırılmasına

5. Aşağıda, inkılaplar sonucunda kapatılan kurumlarla yerlerine yeni açılan modern kurumlar eşleştirilmiştir.

Bu eşleştirmelerden hangileri yanlıştır?

- I. Şer’iye Vekâleti → Diyanet İşleri Başkanlığı
II. Düyunuümumiye İdaresi → Türk Tarih Kurumu
III. Darülfünun → Türk Dil Kurumu
IV. Erkan-ı Harbiye Vekâleti → Genelkurmay Başkanlığı

- A) Yalnız I B) I ve II.
C) II ve III. D) I, III ve IV.

6. Aşağıdakilerden hangisiyle, farklı okullarda yetişen genç kuşaklar arasındaki kültürel çatışma ortadan kaldırılmak istenmiştir?

- A) Şapka Kanunu’yla
B) Tevhid-i Tedrisat Kanunu’yla
C) Soyadı Kanunu’nun kabulüyle
D) Tekke ve zaviyelerin kapatılmasıyla

7. Kadın ile erkek arasındaki sosyal ve ekonomik eşitlik, aşağıdakilerden hangisiyle sağlanmıştır?

- A) Tekke ve zaviyelerin kapatılmasıyla
B) Tevhid-i Tedrisat Kanunu’yla
C) Türk Medeni Kanunu’yla
D) Soyadı Kanunu’yla

8. Atatürk’ün önemli bir maddi desteği ile kurulan ilk özel Türk bankası, aşağıdakilerden hangisidir?

- A) İş Bankası
B) Halkbank
C) Sümerbank
D) Ziraat Bankası

9. 1879’da Seraskerlik makamına bağlı olarak kurulan Umum Jandarma Merkeziyesi, aşağıdaki dönemlerin hangisinde yeniden düzenlenerek “Umum Jandarma Komutanlığı”na dönüştürülmüştür?

- A) Tanzimat Dönemi
B) I. Meşrutiyet Dönemi
C) II. Meşrutiyet Dönemi
D) Cumhuriyet Dönemi

10. Mustafa Kemal’e, Türkiye Büyük Millet Meclisi “Atatürk” soyadını, aşağıdaki tarihlerin hangisinde vermiştir?

- A) 05 Aralık 1934
B) 09 Şubat 1934
C) 21 Haziran 1934
D) 24 Kasım 1934

1. OTURUM

11. "Türkiye'nin güvenliğini gaye tutan, hiçbir milletin aleyhinde olmayan bir barış istikameti bizim daima prensibimiz olacaktır."

ATATÜRK

Atatürk'ün bu vecizesini, aşağıdakilerden hangisiyle ilişkilendirebiliriz?

- A) Eğitim B) Adalet
C) Dış politika D) Batılılaşma

12. Türkiye'nin Musul'u İngiliz mandası altındaki Irak'a bırakmak zorunda kalması, aşağıdakilerden hangisine aykırıdır?

- A) Misakımillî'ye
B) Bristol Raporu'na
C) Sevr Antlaşması'na
D) Tekâlif-i Milliye Emirlerine

13. Aşağıdakilerden hangisinin oluşmasında İtalya ve Almanya'nın uyguladığı saldırgan politikaların etkisi yoktur?

- A) Sadabat Paktı'nın
B) Balkan Antantı'nın
C) Montrö Sözleşmesi'nin
D) Kuzey Atlantik İttifakı'nın

14. Hatay Türk Devleti Meclisi, aşağıdaki tarihlerin hangisinde aldığı kararla Türkiye Cumhuriyeti'ne katılmıştır?

- A) 23 Haziran 1939
B) 29 Haziran 1939
C) 4 Temmuz 1938
D) 20 Temmuz 1936

15. Atatürk'ün "Hayatta en hakiki mürşit ilimdir." sözü, Atatürk ilke ve inkılaplarının dayandığı aşağıdaki esaslardan hangisiyle ilişkilidir?

- A) Barışçılık B) Akılcılık
C) Bağımsızlık D) Vatan sevgisi

16. Atatürk'ün aşağıdaki sözlerinden hangisi cumhuriyetçilik ilkesiyle ilişkilendirilebilir?

- A) Egemenlik kayıtsız şartsız milletindir.
B) Türkiye Cumhuriyeti'ni kuran Türk halkına Türk milleti denir.
C) Din ve mezhep hiçbir zaman politikaya alet olarak kullanılamaz.
D) Memleket kesinlikle modern, çağdaş ve yenilikçi olacaktır.

17. Atatürk'ün - - - - ilkesi, Türkiye'nin en kısa zamanda kalkınması için özellikle ekonomik alanda fertlerin yapamayacağı büyük yatırımları devletin yapmasıdır.

Bu cümlede boş bırakılan yere aşağıdakilerden hangisi yazılmalıdır?

- A) Cumhuriyetçilik
B) Milliyetçilik
C) Devletçilik
D) Halkçılık

18. Aşağıdakilerden hangisi, II. Dünya Savaşı'nın sonuna doğru Mihver Devletlere karşı savaş açarak Müttefik Devletler yanında yer almıştır?

- A) Bulgaristan B) Japonya
C) Almanya D) Türkiye

19. Türkiye'de 27 Mayıs 1960 İhtilali ile iktidarı sona eren siyasi parti aşağıdakilerden hangisidir?

- A) Millet Partisi
B) Demokrat Parti
C) Cumhuriyet Halk Partisi
D) Millî Kalkınma Partisi

20. Türkiye'nin NATO'ya üye olmasında aşağıdaki devletlerden hangisinin tehditleri etkili olmuştur?

- A) Almanya
B) İngiltere
C) Amerika Birleşik Devletleri
D) Sovyetler Birliği

(153) COĞRAFYA – 3

1. Tor topoğrafyasının oluşumunda aşağıdaki kayaç gruplarından hangisi etkili olmuştur?

- A) Kimyasal tortul kayaçlar
B) İç püskürük kayaçlar
C) Fiziksel tortul kayaçlar
D) Dış püskürük kayaçlar

2. Kayaç döngüsü ile kayaçlar milyonlarca yıl içerisinde birbirine dönüşebilmektedir. Aşağıdakilerden hangisi bu dönüşümün evreleri arasında gösterilemez?

- A) Soğuma B) Erime
C) Aşınma D) Buharlaşıma

3. İki okyanusal levhanın birbirine yaklaştığı yerlerde hangi yeryüzü şekli oluşur?

- A) Kırık dağlar
B) Kıvrım dağlar
C) Okyanus hendekleri
D) Okyanus ortası sırtlar

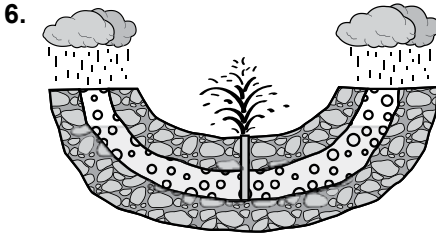
4. Depremler ve volkanizma gibi olayların oluşmasında aşağıdakilerden hangisi etkili olmuştur?

- A) Biyolojik atıklar
B) Küresel ısınma
C) Konveksiyonel akıntılar
D) Dünya'nın hareketleri

5. Levha sınırları ile aşağıdakilerden hangisinin dağılışı arasında paralellik yoktur?

- A) Depremler
B) Dağlık alanlar
C) Volkanik alanlar
D) Sıcak su kaynakları

1. OTURUM



Geçirimsiz tabaka

Geçirimli tabaka

Şekilde gösterilen kaynak türü aşağıdakilerden hangisidir?

- A) Gayzer
B) Artezyen
C) Fay kaynağı
D) Karstik kaynak

7. Aşağıdaki toprak türlerinden hangisinin humus oranı daha azdır?

- A) Çöl topraklarının
B) Laterit toprakların
C) Çernezyom toprakların
D) Kahverengi orman toprakların

8. Çukurova, Bafra, Çarşamba vb. delta ovalarımız daha çok hangi toprak türü ile kaplıdır?

- A) Çernezyom B) Terro-rossa
C) Alüvyon D) Laterit

9. Bir dağın etek kısmında geniş yapraklı ağaçlar bulunurken, yüksek kısımlarında iğne yapraklı ağaçların görülmesinin sebebi aşağıdakilerden hangisidir?

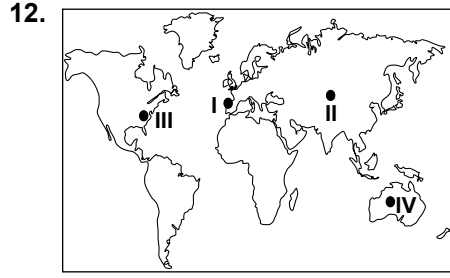
- A) Yağış B) Sıcaklık
C) Toprak D) Bakı

10. Aşağıdakilerden hangisi çalı formasyonudur?

- A) Savan B) Step
C) Tundra D) Maki

11. Aşağıdakilerden hangisi modern nüfus sayımlarının amaçları arasında gösterilemez?

- A) Asker sayısını belirlemek
B) Nüfus planlamalarını yapmak
C) Nüfus hareketlerini tespit etmek
D) Ülke kaynaklarını doğru kullanmak



Haritada işaretli noktaların hangi ikisinde nüfus yoğunluğu daha azdır?

- A) I ve II. B) II ve III.
C) III ve IV. D) II ve IV.

13. Beyin göçü veren ülkeler için aşağıdakilerden hangisi söylenebilir?

- A) Sanayisi gelişmiştir.
B) Yaşlı nüfus oranı yüksektir.
C) Ortalama yaşam süresi kısadır.
D) Kişi başına düşen millî gelir fazladır.

14. Bir ülkedeki aktif nüfusun ekonomik faaliyetlere göre dağılımı öncelikle aşağıdakilerden hangisi hakkında bilgi verir?

- A) Ülke tarihi
B) Ülkenin jeopolitik konumu
C) Ülkenin kalkınma düzeyi
D) Aritmetik nüfus yoğunluğu

15. Aşağıdakilerden hangisi dünya nüfusunda herhangi bir değişikliğe neden olmaz?

- A) Göçler
B) Savaşlar
C) Salgın hastalıklar
D) Doğal afetler

16. I. Tarımsal faaliyetlerin yaygın olması
II. Eğitim seviyesinin düşük olması
III. Aile planlamasının yapılması

Az gelişmiş ülkelerde nüfus artış hızının yüksek olmasının sebepleri arasında yukarıdakilerden hangileri gösterilebilir?

- A) Yalnız I. B) Yalnız III.
C) I. ve II. D) I. ve III.

17. Maki bitki örtüsünün yaygın olduğu bir alanda aşağıdaki toprak türlerinden hangisi daha yaygındır?

- A) Laterit B) Terra rossa
C) Podzol D) Vertisol

18. Aşağıdakilerden hangisinin Dünya nüfusunun artmasında etkili olduğu söylenemez?

- A) Sanayi devrimi
B) Tıp alanındaki ilerlemeler
C) Beslenme koşullarının iyileşmesi
D) Kadınların çalışma hayatına girmesi

19. 2000 yılı nüfus sayımı anket formundaki bir soru: "Beş yıl önce şu anda ikamet ettiğiniz yerleşim yerinde mi yaşıyordunuz?" şeklindedir.

Bu soru ile aşağıdaki bilgilerden hangisi elde edilebilir?

- A) Nüfus hareketleri
B) Nüfusun eğitim düzeyi
C) Aritmetik nüfus yoğunluğu
D) Tarımsal nüfus yoğunluğu

20. I. Himalaya dağları
II. Orta Asya
III. Kutup çevresi

Yukarıda verilen alanların hangisinde nüfus yoğunluğunun az olmasında yer şekilleri etkili olmuştur?

- A) Yalnız I B) Yalnız II
C) I. ve II. D) I. ve III.

(154) COĞRAFYA – 4

1. Yıllık yağış miktarının 400-600 mm aralığında olduğu, organik maddece zengin olan ve ülkemizin iç kesimlerinde görülen, üzerinde ağırlıklı olarak tahıl tarımının yapıldığı toprak türü nedir?

- A) Terra-Rossa topraklar
B) Kara topraklar (Çernezyom)
C) Kahverengi orman toprakları
D) Kestane renkli bozkır toprakları

1. OTURUM

2. Aşağıdakilerden hangisi orman yan ürünüdür?

- A) Reçine B) Parke
C) Kağıt D) Tomruk

3. Aşağıdakilerden hangisi alüvyal toprakların özelliklerinden biri değildir?

- A) Horizonları gelişmiş, zor işlenirler.
B) Eski göl tabanlarında yaygındırlar.
C) Mineral ve organik maddece zengindirler
D) Dış kuvvetlerin taşıdığı malzemelerin birikmesiyle oluşmuşlardır.

4. Ülkemizde endemik bitki türü aşağıda verilen yerlerin hangisinde daha fazla görülür?

- A) Iğdır Ovası
B) Toros Dağları
C) Kaçkar Dağları
D) Trakya Yarımadası

5. Aşağıdakilerden hangisi nüfus ve yerleşmeyi etkileyen beşeri faktördür?

- A) Sıcaklık
B) Madencilik
C) Jeolojik yapı
D) Su kaynakları

6. Aşağıdakilerden hangisi dağınık yerleşme tipinin oluşmasına sebep olan faktörlerden biri değildir?

- A) Yer şekillerinin engebeli oluşu
B) Su kaynaklarının zengin oluşu
C) Tarım arazilerinin parçalı oluşu
D) Nüfus yoğunluğunun düşük oluşu

7. Aşağıdakilerden hangisi sanayi şehri olarak nitelendirilebilir?

- A) Ordu B) Muğla
C) Bursa D) Erzincan

8. Ülkemizin nüfus piramidinin tabanını 1990 yılına kadar geniş iken, son dönemlerde tabanında daralma görülmektedir.

Bu durum aşağıdakilerden hangisinden kaynaklanmaktadır?

- A) Nüfus artış hızının düşmesinden
B) Okur-yazar oranının artmasından
C) Kırdan kente göç hızının artmasından
D) Kırsal nüfus miktarının giderek azalmasından

9. Aşağıdaki nüfus özelliklerinden hangisi bir ülkenin gelişmişlik durumu hakkında bilgi vermez?

- A) Eğitim durumu
B) Kır ve kent nüfus oranları
C) Nüfusun cinsiyete göre dağılımı
D) Nüfusun ekonomik sektörlere dağılımı

10. Aşağıdaki dönemlerin hangisinde ülkemizin nüfus artış hızı daha düşüktür?

- A) 1925-1930 B) 1940-1945
C) 1955-1960 D) 1980-1985

11. Aşağıdakilerden hangisi nüfus artışının olumlu sonuçlarından biridir?

- A) Milli gelirin azalması
B) Bağımlı nüfusun artması
C) Konut ihtiyacının artması
D) İş gücü maliyetinin düşmesi

12. Tarihi İpek Yolu için aşağıda varılan yargılardan hangisi yanlıştır?

- A) İpek, baharat, porselen ve kumaş çok taşınan ürünlerdir.
B) Avrupa'nın ürettiği teknolojik ürünler Asya'ya taşınmıştır.
C) Doğuda Çin'den başlayıp, batıda Avrupa'ya uzanmıştır.
D) Kıtalar arasında ırk, din ve kültürel alış verişe imkan tanımıştır.

13. Sümerler M.Ö. 600 yılında aşağıdakilerden hangisini icat etmişlerdir?

- A) Pusulayı B) Kağıdı
C) Matbaayı D) Yazıyı

14. Panama Kanalı'nın açılması hangi boğazın önemini azalmasına neden olmuştur?

- A) Hürmüz B) Kiel
C) Macellan D) Malakka

15. Aşağıdakilerden hangisi Türkiye nüfusunun özelliklerinden değildir?

- A) Eğitim düzeyinin giderek artması
B) Kırsal nüfusun daha fazla olması
C) Ortalama yaşam süresinin uzaması
D) Kentleşme nüfusunun giderek artması

16. Aşağıdakilerden hangisi mevsimlik göçlere örnek değildir?

- A) Pamuk toplamak için Çukurova'ya gelmek
B) Yazın çalışmak için turistik yörelere gitmek
C) Yaz mevsiminde yaylaya çıkmak
D) İşsizlik nedeniyle büyük şehirlere göç etmek

17. Türkiye'nin günümüz nüfusu yaklaşık olarak ne kadardır?

- A) 15 milyon kişi
B) 30 milyon kişi
C) 78 milyon kişi
D) 90 milyon kişi

18. Doğal afetlerin her geçen yıl daha fazla can ve mal kaybına neden olması aşağıdakilerden hangisiyle paralellik gösterir?

- A) Eğitim seviyesinin yükselmesiyle
B) Doğal dengenin bozulma hızıyla
C) Turizm faaliyetine katılımın artmasıyla
D) Çevre ve doğa bilincinin gelişmesiyle

19. Aşağıdakilerden hangisi ülkemizin iğne yapraklı ağaç türlerinden biridir?

- A) Sedir B) Meşe
C) Kestane D) Akçağaç

1. OTURUM

20. Aşağıdakilerden hangisi gelişmiş ülkelere ait nüfus özelliği değildir?

- A) Nüfus artış hızı yüksektir.
 B) Okur-yazar oranı yüksektir.
 C) Doktor başına düşen hasta sayısı azdır.
 D) Aktif nüfusun büyük kısmı hizmet sektöründe çalışmaktadır.

(163) MATEMATİK – 3

1. $0! + 1! + 2! + 3! + 4!$ işleminin sonucu aşağıdakilerden hangisidir?

- A) 10 B) 30 C) 33 D) 34

2. Bir semtten bir ev almak isteyen bir kişi bu semtte bulunan 20 farklı villa, 30 farklı apartman dairesi arasından kaç farklı seçim yapabilir?

- A) 50 B) 200
 C) 400 D) 600

3. 4 elemanlı alt kümelerinin sayısı, 3 elemanlı alt kümelerinin sayısına eşit olan kümenin eleman sayısı kaçtır?

- A) 3 B) 4 C) 7 D) 12

4. Hilesiz bir zar ile düzgün bir madeni para birlikte atılıyor. Zarın üst yüzüne gelen sayının asal ve madeni paranın tura gelme olasılığı kaçtır?

- A) $\frac{1}{4}$ B) $\frac{1}{5}$
 C) $\frac{1}{6}$ D) $\frac{1}{12}$

5. $f : \mathbb{R} \rightarrow \mathbb{R}$, bire bir ve örten bir fonksiyondur. $f(x - 4) = 3x + 2$ olduğuna göre $f^{-1}(-1)$ kaçtır?

- A) -9 B) -5 C) -1 D) 5

6. $f, g : \mathbb{R} \rightarrow \mathbb{R}$, $f(x) = 2x^2 + x - 5$ ve $g(x) = 4x + 2$ olduğuna göre $(f - g)(-2)$ kaçtır?

- A) 4 B) 5 C) 6 D) 7

7. $f, g : \mathbb{R} \rightarrow \mathbb{R}$, $f(x) = 2x - 9$ ve $g(x) = x^2 + 1$ fonksiyonları veriliyor. Buna göre $(g \circ f)(3)$ kaçtır?

- A) 13 B) 12 C) 10 D) 9

8. Koordinat düzleminde verilen $M(-3, 2)$ ve $N(1, 4)$ noktaları arasındaki uzaklık kaç birimdir?

- A) 20 B) 10
 C) $4\sqrt{5}$ D) $2\sqrt{5}$

9. Denklemi $ax - 3y + 11 = 0$ olan doğrunun eğimi 4 olduğuna göre a kaçtır?

- A) 12 B) $\frac{4}{3}$
 C) $-\frac{4}{3}$ D) -12

10. $A(0, 3)$ noktasından geçen ve $2x - y + 1 = 0$ doğrusuna paralel olan doğrunun denklemi aşağıdakilerden hangisidir?

- A) $2x - y + 4 = 0$
 B) $2x - y + 3 = 0$
 C) $2x - y + 2 = 0$
 D) $2x - y + 1 = 0$

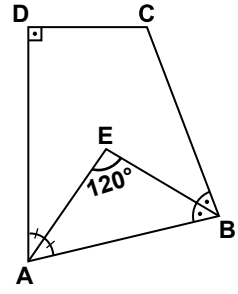
11. $A(2, -3)$ noktasından geçen ve eğimi $\frac{1}{2}$ olan doğrunun denklemi aşağıdakilerden hangisidir?

- A) $2x - 3y + 6 = 0$
 B) $x - 2y - 8 = 0$
 C) $2x - y + 8 = 0$
 D) $x + 2y + 6 = 0$

12. $5x + my - 4 = 0$ doğrusu $A(2, -2)$ noktasından geçtiğine göre m kaçtır?

- A) 1 B) 2 C) 3 D) 4

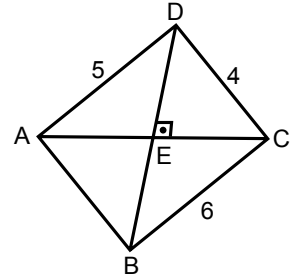
13.



Şekildeki ABCD dörtgeninde $[\widehat{AE}, \widehat{DAB}]$ 'nin; $[\widehat{BE}, \widehat{ABC}]$ 'nin açıortayıdır. $m(\widehat{AEB}) = 120^\circ$ ve $m(\widehat{ADC}) = 90^\circ$ olduğuna göre $m(\widehat{DCB})$ kaç derecedir?

- A) 150 B) 140 C) 120 D) 110

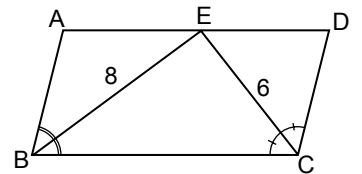
14.



Şekildeki ABCD dörtgeninde $[DB]$ ve $[AC]$ köşegenleri E noktasında dik kesilmektedir. $|AD| = 5$ cm, $|DC| = 4$ cm ve $|CB| = 6$ cm olduğuna göre $|AB|$ kaç santimetredir?

- A) $4\sqrt{5}$ B) $5\sqrt{3}$
 C) $4\sqrt{3}$ D) $3\sqrt{5}$

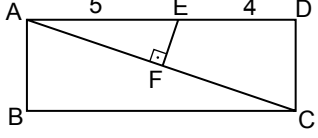
15.



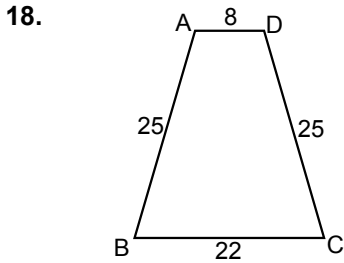
Şekildeki ABCD paralelkenarında E noktası $[AD]$ 'nin üzerindedir. $[BE]$, \widehat{ABC} 'nin; $[CE]$, \widehat{BCD} 'nin açıortayıdır. $|BE| = 8$ cm ve $|EC| = 6$ cm olduğuna göre $|AD|$ kaç santimetredir?

- A) 10 B) 14 C) 20 D) 28

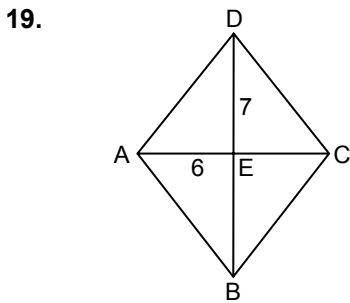
1. OTURUM

16.  Şekildeki ABCD dikdörtgeninde $[EF] \perp [AC]$ ve $|AF| = |FC|$ 'tir. $|AE| = 5$ cm ve $|ED| = 4$ cm olduğuna göre ABCD dikdörtgeninin alanı kaç santimetrekaredir?

- A) 18 B) 20 C) 25 D) 27
17. Köşegen uzunlukları 24 cm ve 10 cm olan eşkenar dörtgenin çevresi kaç santimetredir?
- A) 44 B) 52 C) 58 D) 68



- Şekildeki ABCD ikizkenar yamuğunda $[AD] \parallel [BC]$ 'dir. $|AD| = 8$ cm, $|AB| = |DC| = 25$ cm ve $|BC| = 22$ cm olduğuna göre ABCD yamuğunun alanı kaç santimetrekaredir?
- A) 192 B) 200
C) 264 D) 360



- Şekildeki ABCD eşkenar dörtgeninde, $[AC]$ ve $[BD]$ köşegenleri E noktasında kesişmektedir. $|AE| = 6$ cm ve $|DE| = 7$ cm olduğuna göre A(ABCD) kaç santimetrekaredir?
- A) 21 B) 42 C) 84 D) 168

20. Bir dış açısının ölçüsü 40° olan düzgün çokgen kaç kenarlıdır?
- A) 6 B) 9 C) 10 D) 12

(164) MATEMATİK - 4

1. $i^{2017} + i^{2016} + i^{2015}$ ifadesi aşağıdakilerden hangisine eşittir?

- A) 1 B) $1 + i$
C) $1 - i$ D) i

2. $z_1 = 3m + (n - 2)i$ ve $z_2 = 9 - (m + 4)i$ karmaşık sayıları veriliyor. $z_1 = z_2$ olduğuna göre $m \cdot n$ kaçtır?

- A) -12 B) -15
C) -18 D) -21

3. $mx^2 + 4x - 2 = 0$ denkleminde kökler toplamı 2 olduğuna göre m kaçtır?

- A) 2 B) $-\frac{1}{2}$
C) -2 D) -4

4. $z_1 = 2 - i$ ve $z_2 = 2 + i$ olduğuna göre $\text{Re}\left(\frac{z_1}{z_2}\right)$ kaçtır?

- A) $\frac{6}{5}$ B) 1
C) $\frac{4}{5}$ D) $\frac{3}{5}$

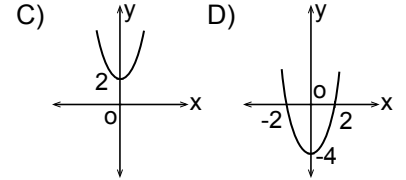
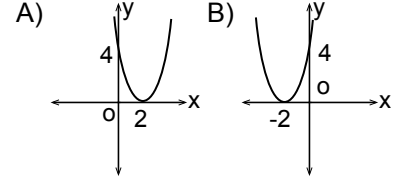
5. $x^2 + 3x + k - 1 = 0$ denkleminin köklerinden biri diğerinin iki katı olduğuna göre k kaçtır?

- A) 1 B) 2 C) 3 D) 4

6. $P(x) = x^5 + (1 - k)x + 3$ polinomunun katsayılarının toplamı 8 olduğuna göre k kaçtır?

- A) -3 B) -2 C) -1 D) 0

7. $f: \mathbb{R} \rightarrow \mathbb{R}$, $f(x) = x^2 - 4x + 4$ fonksiyonunun grafiği aşağıdakilerden hangisidir?



8. $P(x + 2) = x^3 + 2x + 4$ polinomu veriliyor. Buna göre $P(x)$ polinomunun $x - 2$ ile bölümünden kalan kaçtır?

- A) 20 B) 12 C) 8 D) 4

9. $\frac{x^2 - 1}{x^2 + 5x + 4} : \frac{x^2 - 8x + 16}{x^2 - 16}$

ifadesinin en sade biçimi aşağıdakilerden hangisidir?

- A) $\frac{x+1}{x+4}$ B) $\frac{x-1}{x-4}$
C) $\frac{x-4}{x+1}$ D) $\frac{x+4}{x-1}$

10. $\frac{\frac{1}{x^2} + \frac{2}{x} + 1}{1 + \frac{1}{x}}$

ifadesinin en sade biçimi aşağıdakilerden hangisidir?

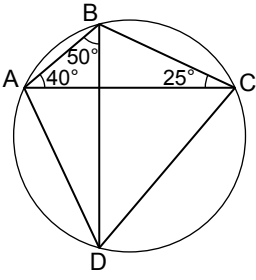
- A) $\frac{x+1}{x}$ B) $\frac{1}{x+1}$
C) x D) $\frac{1}{x}$

11. $x + \frac{1}{x} = 5$ ise $x^2 + \frac{1}{x^2}$ kaçtır?

- A) 23 B) 24 C) 25 D) 27

1. OTURUM

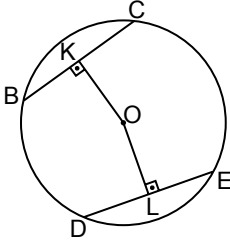
12.



Şekilde A, B, C ve D noktaları çember üzerindedir. $m(\widehat{BAC}) = 40^\circ$, $m(\widehat{DBA}) = 50^\circ$ ve $m(\widehat{BCA}) = 25^\circ$ olduğuna göre $m(\widehat{CAD})$ kaç derecedir?

- A) 55 B) 60 C) 65 D) 70

13.



Şekilde B, C, D ve E noktaları O merkezli çemberin üzerindedir. $[OK] \perp [BC]$, $[OL] \perp [DE]$, $|BC| = |DE|$, $|OK| = (4x - 3)$ cm ve $|OL| = (3x + 1)$ cm olduğuna göre x kaçtır?

- A) 2 B) 3 C) 4 D) 5

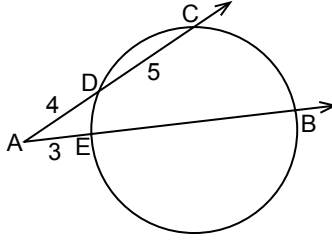
14. Yarıçapının uzunluğu 15 cm olan bir çemberin 144° lik ölçüye sahip yayının uzunluğu kaç santimetredir? (π yerine 3 alınız.)

- A) 30 B) 36 C) 48 D) 72

15. Bir düzgün sekizgen dik piramidin taban ayrıtlarından birinin uzunluğu 16 cm ve yan yüz yüksekliği 10 cm olduğuna göre yanal alanı kaç santimetrekaredir?

- A) 960 B) 810
C) 640 D) 480

16.



Şekildeki çemberi $[AC, D$ ve C noktalarında, $[AB, E$ ve B noktalarında kesmektedir. $|AD| = 4$ cm, $|DC| = 5$ cm ve $|AE| = 3$ cm olduğuna göre $|EB|$ kaç santimetredir?

- A) 6 B) 7 C) 8 D) 9

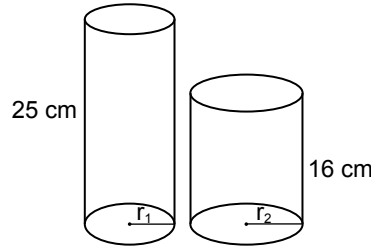
17. Hacmi 300 cm^3 ve yüksekliği 12 cm olan kare dik prizmanın yanal alanı kaç santimetrekaredir?

- A) 120 B) 150
C) 200 D) 240

18. Yüzey alanı 108 cm^2 olan kürenin hacmi kaç santimetreküptür? (π yerine 3 alınız.)

- A) 81 B) 108
C) 135 D) 162

19.



Şekildeki r_1 ve r_2 yarıçaplı dik dairesel silindirlerin yükseklikleri sırasıyla 25 cm ve 16 cm'dir. Silindirlerin hacimleri eşit olduğuna göre $\frac{r_1}{r_2}$ nedir?

- A) $\frac{4}{5}$ B) $\frac{3}{5}$ C) $\frac{2}{5}$ D) $\frac{1}{5}$

20. Taban çapının uzunluğu 32 cm ve yüksekliği 6 cm olan dik dairesel koninin hacmi kaç santimetreküptür? (π yerine 3 alınız.)

- A) 512 B) 640
C) 1280 D) 1536

(206) PSİKOLOJİ – 1

1. Psikoloji, organizmanın yürüme, konuşma, içme, saz çalma gibi davranışlarının yanı sıra, rüya görme, duygulanmak gibi davranışlarını da inceler.

Buna göre aşağıdaki yargılardan hangisine ulaşılabilir?

- A) Psikoloji sadece doğrudan gözlenebilen davranışları inceler.
B) Psikoloji insanın çevreye uyum sağlayan davranışlarını inceler.
C) Psikoloji gözlenebilen ve doğrudan gözlenemeyen tüm davranışları inceler.
D) Doğrudan gözlenemeyen davranışlar psikolojinin inceleme alanına girmez.

2. Aşağıdakilerden hangisi psikolojinin temel amaçlarından?

- A) Organizmanın davranışlarını inceleyerek genel yasalara ulaşmak
B) İnsanların yaşadığı yerlerin coğrafi özelliklerini araştırmak
C) İnsanın fiziksel yapı özelliklerini tanımak
D) Topulukların kültürlerini incelemek

3. Davranışsal yaklaşımı kabul eden psikologlara göre davranış "doğrudan gözlenebilen ve ölçülebilen eylemlerdir."

Davranışçı psikologlara göre aşağıdakilerden hangisi psikolojinin konusu olamaz?

- A) Bisiklete binme
B) Futbol oynama
C) Televizyon seyretme
D) Bir projeyi zihinde tasarlama

4. Okulların fiziksel koşullarının düzenlenmesi, öğrencilerin başarılarını artırma gibi konularda araştırma yapan psikolojinin uzmanlık alanı aşağıdakilerden hangisidir?

- A) Klinik psikoloji
B) Eğitim psikolojisi
C) Hukuk Psikolojisi
D) Endüstri psikolojisi

1. OTURUM

5. Oyuncakları ile oynayan çocuğun davranışlarını ona hissettirilmeden doğal durumda izlenmesi, aşağıdaki araştırma yöntemlerinden hangisine örnek oluşturur?

- A) Test
- B) Anket
- C) Doğal gözlem
- D) Korelasyon

6. Organizmaya etki eden, duyu organlarını harekete geçiren her türlü etkiye uyarıcı denir. Uyarıcılar organizmanın içinden ve dışından olabilir.

Aşağıdakilerden hangisi organizmanın dışından gelen uyarıcılardandır?

- A) Işık
- B) Acıkma
- C) Yorgunluk
- D) Uyku

7. Organizmanın uyarıcıyı almaya başladığı en alt ve artık alamadığı en üst sınır arasındaki bölüme psikolojide ne ad verilir?

- A) Dengelenme
- B) Yetersiz uyarım
- C) Algıda seçicilik
- D) Duyum eşliği

8. Vatani için savaşa katılan askerler açlığı, susuzluğu hatta ölümü bile göze alabilirler.

Buna göre güdülerle ilgili aşağıdakilerden hangisine ulaşılabilir?

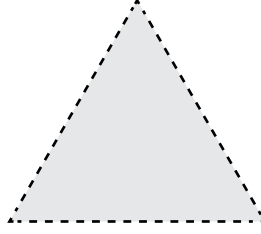
- A) Bazı durumlarda toplumsal güdüler fizyolojik güdülerden daha önceliklidir.
- B) Fizyolojik güdüler gerçekleşmeden toplumsal güdüler giderilmez.
- C) Her zaman için fizyolojik güdüler baskındır.
- D) Savaşmak her askerin görevidir.

9. Algı, duyu organları tarafından alınıp beyne iletilen duyu verilerinin anlamlandırılmasıdır.

Buna göre aşağıdakilerden hangisi algılamaya örnektir?

- A) Koşan sporcunun terlemesi
- B) Uzaklardan bir ses işitilmesi
- C) Karşıdaki belirsiz bir nesnenin parlaması
- D) Alınan tadın elma olduğunun anlaşılması

10.



Verilen şeklin kesik kesik çizgiler olarak değil üçgen olarak algılanması algıyla ilgili aşağıdakilerden hangisinden kaynaklanmaktadır?

- A) Algıda biçim değişmezliği
- B) Algıda renk değişmezliği
- C) Algıda tamamlama
- D) Algıda gruplama

11. Aşağıdakilerden hangisi algıda seçiciliği etkileyen dış faktörlerdendir?

- A) Hareket eden uyarıcılar
- B) Kaygı ve sıkıntılar
- C) İlgı ve istekler
- D) İhtiyaçlar

12. Park halinde yanımızda duran otomobil hareket ettiğinde kendi otomobilimizi hareket ediyormuş gibi algılamamız aşağıdakilerden hangisine örnek olur?

- A) Hallüsinasyona
- B) Algıda tamamlamaya
- C) İllüzyona
- D) Algıda değişmezliğe

13. Aşağıdakilerden hangisi öğrenme sonucu kazanılan davranıştır?

- A) Örümceğin ağ örmesi
- B) Arının bal yapması
- C) Leyleklerin göç etmesi
- D) Bir çocuğun ağlayarak isteklerini elde etmesi

14. Çözümlemeyen bir fizik probleminin parçaları arasındaki ilişkinin birdenbire görülmesi, öğrenme türlerinden hangisine örnektir?

- A) Klasik koşullanma yoluyla öğrenme
- B) Kavrama yoluyla öğrenme
- C) Model alarak öğrenme
- D) Motor öğrenme

15. I. Öğrenmede ilerlemenin bilinmesi yararlıdır.
II. Yeterli tekrarlar yapmak başarıyı artırır.
III. Aralıklı öğrenme daha verimli olur.

Öğrenme başarısını artırmada yukarıda verilenlerden hangileri doğrudur?

- A) I ve II.
- B) I ve III.
- C) II ve III.
- D) I, II ve III.

16. Aşağıdakilerden hangisinde "çağırışım" söz konusu değildir?

- A) Gelinliğin düğünü anımsatması
- B) Anıtkabir'in Ankara'yı anımsatması
- C) Beyaz tavşanın karanlıkta beyaz olarak algılanması
- D) 1453 yılının İstanbul'un fethini hatırlatması

17. Önceden belenmiş olan ama o anda aklımızda aktif durumda olmayan bilgilerin bir uyarı ile zihinde canlanması aşağıdaki kavramlardan hangisiyle ifade edilir?

- A) Kodlama
- B) Hatırlama
- C) Ket vurma
- D) Unutma

18. İnsan yalnızca var olan değildir, aynı zamanda kendini var olan olarak algılayabilen, duygularının ve yaptıklarının farkında olanıdır.

Açıklaması yapılan kavram aşağıdakilerden hangisidir?

- A) Bilinç
- B) Hipnoz
- C) Meditasyon
- D) Biyolojik saat

19. Aristoteles "dil düşünmenin elbisidir" der.

Bu yargı aşağıdakilerden hangisini desteklemez?

- A) Düşünmeyle dil arasındaki sıkı bir ilişki vardır.
- B) Düşünme, dil olsa da olmasa da vardır.
- C) Düşünce ifadesini sadece dilde bulur.
- D) Düşünme dilden önce de vardır.

1. OTURUM

20. Aşağıdakilerden hangisi uyku bozukluklarından biri değildir?

- A) Aşırı uyku
- B) Kesintili uyku
- C) Uykuya dalma güçlüğü
- D) Uyku sırasında rüya görülmesi

(209) SOSYOLOJİ – 2

1. I. Üretim araçlarının mülkiyeti devletin elindedir.
II. Üretim araçlarının mülkiyeti bireylerin elindedir.
III. Üretimde temel amaç kar etmektir.

Verilenlerden hangisi Sosyalist Ekonomik Sistem'in özelliklerindendir?

- A) Yalnız I
- B) Yalnız II
- C) I ve III
- D) II ve III

2. Cumhurbaşkanı ile birlikte yürütmeyi oluşturan ve yürütme görevini devlet adına gerçekleştiren organ aşağıdakilerden hangisidir?

- A) Meclis
- B) Hükümet
- C) Sivil toplum
- D) Siyasi parti

3. Farklı toplumsal grup ya da sınıftan insanı içine alan partiler dikey yapılı, bir grubun ya da toplumsal sınıfın çıkarını savunmak için kurulan partiler ise yatay yapılı partilerdir.

Buna göre aşağıdakilerden hangisi dikey yapılı partiye örnek teşkil eder?

- A) İşçi partileri
- B) Çiftçi partileri
- C) Liberal partiler
- D) İşveren partileri

4. Aşağıdakilerden hangisi demokratik bir yönetim için söylenemez?

- A) Halk egemenliğine dayalıdır.
- B) Güçler ayrılığı ilkesi ilkesi hakimdir.
- C) Eşitlik, özgürlük ve adalet ölçütlerine dayanır.
- D) Temel hak ve özgürlükler önemli değildir.

5. Nispi temsili sisteminin temel özelliği partilerin aldıkları oy oranına göre parlamentoda temsil edilmesidir.

Buna göre aşağıdakilerden hangisi nispi temsili sistemine ait bir özelliktir?

- A) Kanunen kurulmuş her partinin seçime katılamaması
- B) Partilerin kendilerini destekleyen seçmen oranına göre parlamentoda temsil edilmesi
- C) Seçim bölgelerinde en fazla oy alan siyasi partinin bütün milletvekillerini kazanması
- D) İlk turda yüzde elliyi aşamayan en yüksek oyu alan iki partinin ikinci tura katılması

6. Doğa, toplum ve insan sürekli değişim halindedir. Değişimin olmadığı bir toplum düşünülemez ancak değişimin hızı zaman içerisinde ve toplumdaki topluma farklılık gösterebilir.

Aşağıdakilerden hangisi parçada anlatılana uygunluk göstermez?

- A) Toplumların değişim hızı aynı değildir.
- B) Toplumlar için değişim kaçınılmazdır.
- C) Gelişmiş toplumlarda değişimden bahsedilemez.
- D) Bir toplumdaki değişim hızı zamana göre değişebilir.

7. Toplumların kendiliğinden ve herhangi bir müdahale olmadan değişimini ifade eden, plana ve programa tabi tutulmayan toplumsal değişim tipi aşağıdakilerden hangisidir?

- A) Serbest sosyal değişim
- B) Müdahale yoluyla sosyal değişim
- C) Demokratik planlı değişim
- D) Baskı yolu ile değiştirme

8. Aşağıdakilerden hangisi toplumsal çözülmenin nedenleri arasında değildir?

- A) İşbölümü yetersizliği
- B) Örgütlenme yetersizliği
- C) Millî birlik bilincinin zayıflaması
- D) Bireylerde demokrasi bilincinin gelişmesi

9. Orta tabakanın genişletilmesinde aşağıdakilerden hangisinin katkısı yoktur?

- A) Adil vergi politikalarının uygulanması
- B) Eğitim hizmetlerinin eşit ve kaliteli sağlanması
- C) Sosyal güvenlik kapsamının daraltılması
- D) Toplumun refah seviyesinin yükseltilmesi

10. Aşağıdakilerden hangisi toplumsal değişmeye neden olan Tanzimat öncesi ıslahat hareketlerindendir?

- A) Yeniçeri ocağının kaldırılması
- B) Kanun-ı Esasi'nin ilan edilmesi
- C) Soyadı Kanunu'nun çıkarılması
- D) Medeni Kanun'un kabul edilmesi

11. Aşağıdaki kültürel öğelerden hangisi nitelik yönünden diğerlerinden farklıdır?

- A) Değer yargıları
- B) Görgü kuralları
- C) Yazılı ve yazısız kurallar
- D) Okul ve fabrika binaları

12. Bir sosyolog Japon toplumundaki düşün törenleri ile Türk toplumundaki düşün törenlerini inceleyerek karşılaştırma yapmış ve iki toplum arasında birçok farklılık olduğunu ortaya koymuştur.

Bu durum, kültürün hangi özelliğine örnektir?

- A) Toplumdan topluma değişmesi
- B) Coğrafi koşullardan etkilenmesi
- C) Kültürün tarihsel süreçte oluştuğu
- D) Aynı toplumda zamanla değişmesi

13. Bireyin içinde yaşadığı toplumun kurallarını ve değerlerini öğrenme süreci aşağıdaki kavramlardan hangisiyle ifade edilir?

- A) İşbölümü
- B) Kalabalık
- C) Sosyalleşme
- D) Kültürel gecikme

1. OTURUM

14. Ülke yönetimi ile ilgili yasa ve yönetim ilişkilerinin düzenlenmesi aşağıdaki kurumlardan hangisinin temel görevlerindedir?

- A) Din B) Siyaset
C) Aile D) Eğitim

15. Sevgi, saygı gibi duygusal ihtiyaçların giderilmesi ailenin hangi temel işlevlerindedir?

- A) Toplumsallaştırma
B) Ekonomik
C) Psikolojik
D) Neslin devamı

16. Aşağıdaki evlilik türlerinden hangisinde "eşin seçildiği grup" ölçüt olarak alınmıştır?

- A) Egzogami B) Matrilokal
C) Patrilokal D) Neolokal

17. Aşağıdakilerden hangisi Türk Medeni Kanununda belirtilen boşanma nedenlerinden değildir?

- A) Terk
B) Cana kast
C) Suç işleme
D) Kadının çalışması

18. Güneş, ay, yıldızlar gibi doğa güçlerine inanma aşağıdaki kavramlardan hangisiyle ifade edilir?

- A) Fetişizm B) Natürizm
C) Politeizm D) Monoteizm

19. Aşağıdakilerden hangisi, laik devletin özelliklerinden değildir?

- A) Devletin bütün inanış biçimlerine eşit uzaklıkta olması
B) Bireylerin din ve vicdan özgürlüğüne sahip olması
C) Devletin bireylerin inanç özgürlüğünü güvenceye alması
D) Toplumsal yaşamın dini kurallara göre oluşturulması

20. İnsanların ihtiyaç duydukları mal ve hizmetleri elde etmek için bir nesnenin yapısında, biçiminde veya yerinde değişiklik yapma etkinliği üretimdir.

Buna göre, aşağıdakilerden hangisi üretime örnek değildir?

- A) Yoğurdu yemek
B) Sütten peynir yapmak
C) Zeytinden yağ elde etmek
D) Çimentoyu inşaatta kullanmak

(242) İNGİLİZCE – 3

1 - 20. sorularda boş bırakılan yere uygun gelen kelime veya ifadeyi işaretleyiniz.

1. You must learn - - - - English in order to find a good job.

- A) the B) a C) - D) an

2. Suat is ill now and he is at the hospital. - - - - he can't play in the next match.

- A) But B) So C) Or D) Nor

3. I came to visit my grandparents - - - - they weren't at home.

- A) nor B) or C) yet D) so

4. The meeting was crowded - - - - noisy.

- A) and B) for C) if D) as

5. Money makes rich - - - - it doesn't bring happiness.

- A) or B) so C) nor D) but

6. Would you rather go to cinema - - - - go to theatre?

- A) or B) nor C) so D) yet

7. It is very hot here. If you want, you can take off - - - - coat.

- A) you B) your
C) yourself D) yourselves

8. Fatih usually watches sports programs on TV such as bungee-jumping, snowboarding and rafting.

He likes - - - - sports.

- A) indoors B) usual
C) safe D) extreme

9. My daughter is in the third grade. She is going to finish her school - - - -.

- A) last month B) next month
C) right now D) last year

10. The telephone - - - -. Could you answer it please?

- A) has rung B) ring
C) is ringing D) rang

11. We're going to - - - - the house next week.

- A) plant B) meet
C) spend D) paint

12. I'm - - - - my teeth now.

- A) watching B) brushing
C) calling D) having

13. What does your father - - - -?

- A) do B) did
C) does D) doing

14. Merve - - - - the dishes at the moment.

- A) washes B) washed
C) will wash D) is washing

15. - - - - money do you have?

- A) How many B) How often
C) How much D) How long

16. Ayşe will wear a - - - - for the meeting.

- A) dress silk new red
B) red dress silk new
C) silk new dress red
D) new red silk dress

1. OTURUM

17. I've bought the tickets. - - - - .

- A) We're going to fly to Egypt
- B) She's ironing her clothes now
- C) They've already sold their car
- D) He always cooks the dinner for us

18. A: - - - - do you work so much?
B: Because I need a lot of money.

- A) How
- B) Why
- C) What
- D) Which

19. A: - - - - is at the door?
B: Ali.

- A) Whose
- B) Where
- C) When
- D) Who

20. A: - - - - ?
B: Twice a week.

- A) How often do you do sports
- B) When do you do your homework
- C) What do you do at the weekend
- D) Where do you go for your holiday

(242) ALMANCA – 3

1 - 17. sorularda boş bırakılan yere uygun gelen kelime veya ifadeyi işaretleyiniz.

1. A: Wann - - - - wir uns wieder treffen?
B: Am Montag.

- A) werden
- B) wird
- C) wurde
- D) werde

2. Der - - - - Schüler in unserer Klasse ist Hasan.

- A) klein
- B) kleiner
- C) kleinste
- D) am kleinsten

3. Es - - - - in diesem Winter sehr kalt werden.

- A) werde
- B) wird
- C) werden
- D) geworden

4.



A: Wo ist der Vogel?
B: Der Vogel ist - - - - dem Tisch.

- A) unter
- B) neben
- C) über
- D) auf

5. A: - - - - reparierst du dein Fahrrad?
B: Mit dem Schraubenzieher.

- A) Wo
- B) Womit
- C) Was
- D) Wer

6.



Das ist eine - - - - .

- A) Kühlschrank
- B) Auto
- C) Waschmaschine
- D) Schrank

7. Ich werde - - - - morgen anrufen.

- A) du
- B) dir
- C) dein
- D) dich

8. Ich komme - - - - Istanbul und fahre - - - - Antalya weiter.

- A) bis / zum
- B) von / nach
- C) aus / ins
- D) nach / zur

9.



Wie ist das Wetter?
Es - - - - .

- A) ist sonnig
- B) regnet
- C) schneit
- D) ist windig


10. Der Teppich liegt - - - - dem Boden.

- A) in
- B) auf
- C) um
- D) zur

11. A: - - - - sitzt die Katze?
B: Vor - - - - Fenster. (das Fenster, Dativ)

- A) Wo / dem
- B) Was / das
- C) Wer / der
- D) Wem / den

12.



A: Wo ist der Hund?
B: Er ist - - - - dem Sofa.

- A) vor
- B) hinter
- C) auf
- D) neben


13. Unser Lehrer sagt, - - - - wir viel lernen sollen.

- A) weil
- B) denn
- C) dass
- D) aber

14. Mutter : Ayşe, hast du - - - - angezogen?
Ayşe : Ja, Mutter.

- A) dich
- B) mir
- C) dir
- D) sein

15.



A: Wie spät ist es?
B: Es ist - - - - .

- A) sieben Uhr
- B) halb sieben
- C) halb acht
- D) viertel nach sieben

1. OTURUM

16. A: Wohin gehen Sie?
B: Ich gehe - - - - Kino.

- A) zu das B) in das
C) von das D) aus das

17. A: Woher kommen Sie?
B: Ich komme - - - - Berlin.

- A) aus B) vom
C) zum D) bis

18. Kurallı bir cümle yapınız.

Ali und Markus / Döner / essen
1 2 3
heute
4

- A) 1 / 2 / 3 / 4 B) 2 / 4 / 1 / 3
C) 1 / 3 / 4 / 2 D) 2 / 1 / 4 / 3

19. Aşağıdaki sözcüklerden hangisinin Türkçe karşılığı yanlıı verilmiştir?

- A) Der Füller = dolma kalem
B) Die Brille = gözlük
C) Die Tasche = çanta
D) Das Kleid = pantolon

20. Aşağıdaki kelimelerden hangisinin Almanca karşılığı yanlıı verilmiştir?

- A) şarkı söylemek = lesen
B) çalışmak = arbeiten
C) unutmak = vergessen
D) getirmek = bringen

(242) FRANSIZCA – 3

1 - 15. sorularda boş bırakılan yere uygun gelen kelime veya ifadeyi işaretleyiniz.

1. A: Paul a vingt ans?

B: Non, - - - - a dix-huit ans.

- A) tu B) il C) ils D) elle

2. A: Marc, tu vois le petit garçon à la casquette bleue?

B: Oui, je - - - - vois.

- A) le B) la C) te D) les

3. A: Est-ce que tu n'aimes pas les chansons de Berkant?
B: Mais si, je - - - - aime beaucoup.

- A) la B) leurs
C) les D) nous

4. A: As-tu donné du gâteau à tes copains?

B: Oui, je - - - - en ai donné.

- A) lui B) la C) le D) leur

5. A: Est-ce que tu connais quelqu'un à Lyon?

B: Non, je ne connais - - - - à Lyon.

- A) personne B) quelque chose
C) rien D) depuis

6. Je n'aime pas les gens - - - - ne sourient jamais.

- A) où B) qui C) que D) ou

7. Comme il - - - -, nous restons à la maison.

- A) venu B) neigé
C) plu D) pleut

8. A: Je ne bois pas cela.

B: Dis-moi - - - - tu bois, alors!

- A) depuis B) ce qui
C) ce que D) pour

9. A : Tu as déjà vu Disneyland à Paris?

B : Oui, je l'ai vu - - - -.

- A) après-demain
B) le mois prochain
C) demain
D) l'an dernier

10. A: Daniel habite dans cette rue?

B: Oui, il - - - - habite depuis sept mois.

- A) au B) à la C) y D) en

11. Les jeunes mangent - - - - le match de foot à la télé.

- A) en regardant
B) écouter
C) en buvant
D) regarder

12. Le professeur - - - - du thé porte une belle veste.

- A) jouent B) en jouant
C) boire D) buvant

13. Paul fait des petites réparations à la maison en - - - - de la musique.

- A) voyageant B) écoutant
C) dansant D) sachant

14. Ils ne vont pas - - - - la plage - - - - moto.

- A) au / en B) à / à
C) en / à D) en / aux

15. Pour acheter de la viande, je vais à - - - -.

- A) l'épicerie B) la librairie
C) la boucherie D) le restaurant

16. "Mon mari et ma fille font des exercices physiques." cümlesinde altı çizili sözcüklerin yerine aşağıdaki şahıs zamirlerinden hangisi konulabilir?

- A) Ils B) Nous
C) Vous D) Elles

17 - 18. sorularda verilen cümlelerin Türkçe karşılığını işaretleyiniz.

17. J'ai aperçu Zeynep en entrant dans le restaurant.

- A) Zeynep'i lokantada yemek yerken gördüm.
B) Zeynep'le lokantada yemek yedik.
C) Zeynep lokantada yemek yerken görüldü.
D) Zeynep'i lokantaya girerken farkettim.

1. OTURUM

18. Sylvie travaille en écoutant la radio.

- A) Sylvie radyosunu kapatarak çalışmaya başladı.
- B) Sylvie radyo dinlerken ders çalışıyor.
- C) Sylvie radyo dinlerken kahvaltısını yapıyor.
- D) Sylvie radyo dinlerken uyuyakaldı.

19 - 20. sorularda verilen cümlelerin Fransızca karşılığını işaretleyiniz.

19. İzmir'de çalışan arkadaşlarını arıyor.

- A) Il cherche ses amis travaillant à İzmir.
- B) Il a des amis habitant à İzmir.
- C) Ils habitent à İzmir depuis deux ans.
- D) J'habite à İzmir chez une amie.

20. Okuldan çıkarken Sibel'i gördüm.

- A) Sibel a vu l'accident devant l'école.
- B) J'ai rencontré Sibel entrant dans l'école.
- C) J'ai vu Sibel en sortant de l'école.
- D) Elle a vu Sibel sortant de l'école.

(243) İNGİLİZCE – 4

1 - 20. sorularda boş bırakılan yere uygun gelen kelime veya ifadeyi işaretleyiniz.

1. The shopping centre opens ----- 10:00 a.m. ----- the mornings.

- A) at / at
- B) in / at
- C) at / in
- D) in / in

2. Deniz will give me my book back ----- week.

- A) previous
- B) last
- C) the
- D) next

3. Tuna and Derya met to study for English exam ----- Friday.

- A) up
- B) on
- C) in
- D) at

4. The grocer's is ----- of the bookstore.

- A) in front
- B) next to
- C) between
- D) behind

5. If you go to Ankara, you should visit the Museum of Anatolian Civilizations. There are lots of ----- objects in this museum.

- A) central
- B) capital
- C) historical
- D) middle

6. Yesterday, we went on a picnic by the lake. It was enjoyable. We had a ----- time.

- A) great
- B) many
- C) much
- D) less

7. Football is ----- than basketball in Brazil.

- A) popular
- B) more popular
- C) the more popular
- D) the most popular

8. Ali is the captain of the school football team. He plays very well and he has 29 scores in this season. He is ----- player in our team.

- A) the better
- B) best
- C) better
- D) the best

9. The last Maths exam was ----- than this one.

- A) difficult
- B) more difficult
- C) much difficult
- D) many difficult

10. Rabbits are ----- than turtles but turtles live ----- than rabbits.

- A) faster / longer
- B) longer / faster
- C) faster / faster
- D) longer / slower

11. The thief opened the door ----- and entered the house.

- A) accurately
- B) quietly
- C) heavily
- D) sincerely

12. ----- you help me cook the dinner?

- A) Should
- B) Must
- C) Would
- D) May

13. Don't drive so fast. You ----- have an accident.

- A) should
- B) would
- C) must
- D) can

14. I have ----- my new jacket.

- A) paid
- B) finished
- C) called
- D) worn

15. Have you ----- your homework?

- A) doing
- B) done
- C) did
- D) do

16. We ----- together yesterday.

- A) have
- B) had
- C) were
- D) are

17. Who ----- the chocolate?

- A) eat
- B) ate
- C) eating
- D) to eat

18. I didn't ----- my uncle yesterday.

- A) visit
- B) visited
- C) visiting
- D) to visit

1. OTURUM

19. You don't need to wash the car. ----.

- A) She hasn't washed her clothes yet
B) He has just painted his room
C) They haven't gone out yet
D) I have already cleaned it

20. You have an important exam tomorrow. ----.

- A) You should study
B) You may fall down
C) You can ride a horse
D) You would drink milk

(243) ALMANCA – 4

1 - 16. sorularda boş bırakılan yere uygun gelen kelime veya ifadeyi işaretleyiniz.

1. A: ---- schläfst du am Tag?
B: Acht Stunden.

- A) Wie oft B) Wo immer
C) Was auch D) Wie lange

2. A: Alle Schüler sind krank.
Ahmet, bist du ---- krank?
B: Ja.

- A) bis B) auch
C) trotzdem D) aber

3. Das Kind hat sehr groß- ----, blaue Augen.

- A) -e B) -es C) -er D) -

4. Wir ---- um 10 Uhr am Bahnhof sein.

- A) muss B) müssen
C) musste D) müsse

5. A: Wohin ---- du nächste Woche fahren?
B: Nach Izmir.

- A) wollen B) will
C) wolltest D) willst

6. Mutter : Es regnet. Mert, ---- deinen Regenschirm mit.

Mert : Ja, Mutter.

- A) nimm B) nimmst
C) nehmen D) genommen

7. Melone ist ein ----.

- A) Gemüse B) Suppe
C) Obst D) Salat

8.



A: Wie spät ist es?

B: Es ist ----.

- A) fünf Uhr
B) fünf vor fünf
C) fünf nach fünf
D) halb fünf

9. Thomas hat neue Schuhe gekauft. Er sagt sie ---- sehr teuer.

- A) hätte B) wäre
C) seien D) würden

10. Der Junge, ---- aus der Türkei kommt, spricht gut Deutsch.

- A) der B) die C) das D) er

11. Hasan und Peter sind ---- alt.

- A) gleichen B) klein
C) groß D) gleich

12. Sibel sagt, ---- sie in den Sommerferien nach Deutschland fahren wird.

- A) denn B) dass
C) um D) weil

13. Die Kinder ---- jetzt frei haben.

- A) sollen B) darf
C) möchten D) wollt

14. A: In welchem Monat bist du geboren?

B: Ich bin ---- Dezember geboren.

- A) in B) um C) im D) am

15. Helga ist ---- als Markus.

- A) fleißig
B) fleißige
C) fleißiger
D) am fleißigsten

16. Wer hat diesen Roman ----?

- A) lesen B) lese
C) liebt D) gelesen

17. Aşağıda verilen çekimlerden hangisi doğrudur?

- A) des neuen Fahrrads
B) dem neuem Fahrrads
C) das neuen Fahrrads
D) die neue Fahrrads

18. Aşağıda verilen sözcüklerden hangisinin Türkçe karşılığı yanlış verilmiştir?

- A) viel = çok
B) wenig = az
C) mehr = yok
D) klein = küçük

19-20. sorularda kurallı birer cümle oluşturunuz

19. Du / lernen / sollst / Deutsch
1 2 3 4

- A) 3 / 4 / 2 / 1 B) 1 / 3 / 4 / 2
C) 1 / 4 / 2 / 3 D) 4 / 3 / 2 / 1

1. OTURUM

20. einkaufen gehen / am Samstag/
1 2
Herr Bauer / muss
3 4
- A) 1 / 3 / 2 / 4 B) 2 / 4 / 1 / 3
C) 3 / 1 / 2 / 4 D) 3 / 4 / 2 / 1

(243) FRANSIZCA – 4

1 - 18. sorularda boş bırakılan yere uygun gelen kelime veya ifadeyi işaretleyiniz.

1. - - - - sommes en automne, mais bientôt ce sera l'hiver.
- A) Notre B) Vous
C) Ils D) Nous
2. Ayşe a les yeux bleus, Serap et Levent, - - - - ont les yeux marron.
- A) elles B) il
C) ils D) elle
3. Ne prenez pas cette cravate-ci, mais - - - -.
- A) ceux-là B) celle-là
C) celles-là D) celui-ci
4. Serkan n'a pas de voiture, mais il prend - - - - de son frère.
- A) celle B) celui-là
C) celles D) ceux-ci
5. Seyhan pèse 75 kg. Erhan pèse 70 kg.
Erhan est - - - - gros que Seyhan.
- A) autant B) moins
C) aussi D) plus
6. Erman prend trois cafés par jour. Sinan aussi.
Erman prend - - - - de cafés que Sinan.
- A) autant B) moins
C) aussi D) plus

7. Usain Bolt est l'homme - - - - rapide du monde.
- A) les moins B) la plus
C) le plus D) la moins

8. A: Ce sont tes clés?
B: Oui, ce sont - - - -.
- A) les leurs B) les siens
C) les tiens D) les miennes

9. A: Ma voiture est rapide. Et la tienne?
B: - - - - aussi est rapide.
- A) La mienne B) Les miennes
C) Le mien D) Les miens

10. - - - - je suis très fatigué, j'écoute de la musique.
- A) Combien B) Comment
C) Quand D) Où

11. Lorsque l'agent de police a sifflé, je garais - - - -.
- A) notre clé B) son tableau
C) ta fenêtre D) mon camion

12. Quand je me sens fatigué, je - - - - une douche.
- A) prenais B) prend
C) prends D) as pris

13. A: Tu bois - - - - ?
B: Non merci, je n'en bois pas.
- A) des olives
B) du thé
C) des pommes
D) de la salade

14. Un - - - - de Van Gogh a été volé dans un musée du Caire.
- A) déclaration B) tarte
C) tableau D) poche

15. Si vous receviez une lettre - - - -, que feriez-vous?
- A) sportif B) anonyme
C) prudent D) violent

16. Pour déclarer un vol, on va - - - -.
- A) au commissariat de police
B) à la pharmacie
C) à la mairie
D) au café

17. - - - - est une personne qui vole le bien d'autrui.
- A) Le vendeur
B) Le peintre
C) Le photographe
D) Le voleur

18. Si tu vas - - - - Bodrum, tu peux voyager en bateau.
- A) en B) à la
C) à D) aux

19. Aşağıdaki cümlelerin hangisinde "passé composé" kullanılmıştır?
- A) Tu as vu mon porte-monnaie?
B) Il va jouer au tennis avec moi.
C) Je viens de regarder partout.
D) Prenez des cours de français.

20. "Je vais prendre un café." cümlesinde hangi zaman kullanılmıştır?
- A) Futur
B) Présent
C) Passé composé
D) Futur proche

1. OTURUM

(244) İNGİLİZCE – 5

1 - 20. sorularda boş bırakılan yere uygun gelen kelime veya ifadeyi işaretleyiniz.

1. It hasn't snowed in Antalya - - - - many years.
A) for B) since
C) to D) at
2. Turkish Republic of Northern Cyprus has been independent - - - - 1984.
A) never B) for
C) since D) ever
3. To lose weight, you need to eat - - - - .
A) less B) much
C) most D) worse
4. Today, Ahmet is - - - - than yesterday.
A) good B) best
C) the best D) better
5. Konya is - - - - than all the other cities in Turkey.
A) large B) larger
C) largest D) the largest
6. The air in the big cities is more - - - - than in the village.
A) crowded B) comfortable
C) polluted D) pleasant
7. People have to use the - - - - for the benefit of humankind.
A) invitations B) scientists
C) questions D) inventions

8. Technology has made our lives easier but it has some - - - - for us.
A) disadvantages
B) precautions
C) researches
D) resources
9. When I was a child, I - - - - drink much more milk than now.
A) should B) have to
C) used to D) might
10. Your father never drinks cold water, - - - - ?
A) will he B) does he
C) won't he D) doesn't he
11. Let's have a party, - - - - ?
A) will we B) will you
C) shall we D) shall you
12. Don't go out at night, - - - - ?
A) do you B) will you
C) have you D) were you
13. He has bought a new house, - - - - ?
A) won't he B) hasn't he
C) wasn't he D) doesn't he
14. The poor man hasn't - - - - anything for two days.
A) eat B) ate
C) eating D) eaten
15. There - - - - a big park for kids in the town but now there isn't.
A) used to be B) has to be
C) will be D) may be

16. She - - - - go to the party with them last night.
A) can't B) won't
C) didn't D) doesn't
17. The students - - - - a very difficult exam and most of them failed.
A) visited B) called
C) drank D) had
18. How - - - - you - - - - to the school yesterday?
A) did / go B) will / go
C) are / going D) was / going
19. A: I have to finish this work.
B: Don't worry! I - - - - you.
A) had helped B) will help
C) could help D) was helping
20. Sedat was fixing the car in the garage while - - - - .
A) they had an accident
B) you often go to museum
C) I was watering the flowers
D) he will go abroad tomorrow

(244) ALMANCA – 5

1 - 16. sorularda boş bırakılan yere uygun gelen kelime veya ifadeyi işaretleyiniz.

1. Januar, Februar, März sind - - - - .
A) Monate B) Jahr
C) Wochen D) Tage
2. A: Wann werden wir ins Theater gehen?
B: - - - - Mittwoch - - - - 12:00 Uhr.
A) Im / um B) Am / um
C) Um / am D) Um / bei

1. OTURUM

3. **A: - - - - fährst du von Ankara nach Izmir?**
B: Jeden Monat.
- A) Wozu B) Warum
C) Wie oft D) Wie lange

4.



Wie spät ist es?
Es ist - - - - .

- A) zehn vor neun
B) neun vor zehn
C) zehn nach neun
D) neun nach zehn
5. **Weil du - - - - deine Hausaufgaben machst, darfst du keine Ferien machen.**
- A) immer B) fleißig
C) gut D) nie
6. **A: - - - - lange dauert der Film?**
B: Ungefähr 2 Stunden.
- A) Wann B) Wie
C) Woher D) Wie viel
7. **laut, laut- - - - , am laut- - - -**
- A) -er / -esten B) -esten / -er
C) -er / -er D) -er / -este
8. **A: Wo ist Mehmet?**
B: Er ist - - - - Hause.
- A) bei B) um C) an der D) zu
9. **Nach der Zahl 26 kommt - - - - (27).**
- A) fünfundzwanzig
B) siebzehn
C) siebenundzwanzig
D) siebzig
10. **Wir sind letztes Jahr nach Kuşadası - - - - .**
- A) fahren B) gefahren
C) fuhr D) fährt

11. **der Tag, - - - - , das Jahr**
- A) die Stunde
B) die Minute
C) der Sommer
D) der Monat

12. **Das Spiel endet - - - - 22 Uhr.**
- A) am B) im C) bei D) um

13. **- - - - ich 10 Jahre alt war, ging ich in die Grundschule.**
- A) Als B) Bei C) Um D) So

14.



A: Wie spät ist es?
B: - - - - .

- A) Es ist elf Uhr
B) Es ist viertel nach elf
C) Es ist halb elf
D) Es ist viertel vor elf
15. **A: Hast du den Hund gesehen?**
B: Ja, er ist - - - - Garten.
- A) im B) unter
C) in D) auf
16. **Der Zug fährt um 8 Uhr - - - - Istanbul los .**
- A) zu B) von
C) um D) vom
17. **Saat 13 - 17 arası aşağıdakilerden hangisidir?**
- A) Vormittag B) Mittag
C) Nachmittag D) Abend
18. **September, Oktober, November hangi mevsimin aylarıdır?**
- A) Sommer B) Winter
C) Frühling D) Herbst

19.



Was macht die Frau?

- A) Sie kocht
B) Sie wäscht Wäsche
C) Sie putzt
D) Sie schreibt
20. **Welches ist ein Monat im Winter?**
- A) Februar B) April
C) Juni D) September

(244) FRANZISCA – 5

1 - 15. sorularda boş bırakılan yere uygun gelen kelime veya ifadeyi işaretleyiniz.

1. **Sont- - - - partis à l'école à pied?**
- A) ils B) nous
C) elle D) vous
2. **- - - - veux me reposer à la campagne.**
- A) Elles B) Je
C) Tu D) Elle
3. **Candan Erçetin est une chanteuse - - - - chante aussi en français.**
- A) ce qui B) ce que
C) qui D) que
4. **C'est le quartier - - - - j'ai habité pendant deux ans.**
- A) ce que B) que
C) ce qui D) qui

1. OTURUM

5. Le pull - - - - je porte est en coton.

- A) donc B) qui
C) que D) où

6. - - - - il fait beau, je vais à la chasse avec mon chien.

- A) Comment B) Pourquoi
C) Combien D) Quand

7. Je suis resté au Japon - - - - une année.

- A) pendant B) enfin
C) il y a D) pour

8. Nous irons - - - - ensemble pour faire du ski.

- A) au musée B) à la montagne
C) au stade D) à la mer

9. - - - - je suis sortie du bureau à dix-neuf heures.

- A) Demain
B) L'année prochaine
C) Mardi prochain
D) Mardi dernier

10. C'est l'école primaire - - - - je suis le directeur.

- A) où B) que
C) dont D) qui

11. Les enfants apprennent beaucoup de choses - - - - la télé.

- A) regardez B) en regardant
C) regardé D) regarder

12. Arda - - - - au football à l'équipe de Barcelone est sympa.

- A) jouant B) en jouant
C) jouer D) jouent

13. Nous faisons de l'aérobic en - - - - de la musique.

- A) écoute B) écouter
C) écoutant D) écoutons

14. Ils ne vont pas - - - - l'école - - - - pied.

- A) aux / en B) en / en
C) à / en D) à / à

15. Pour me baigner, je vais - - - - .

- A) à la mer B) à la mairie
C) à la librairie D) au café

16. "M. et Mme Dubois ont pris l'avion pour Nice." cümlesinde altı çizili sözcüklerin yerine aşağıdaki şahıs zamirlerinden hangisi kullanılabilir?

- A) Vous B) Nous
C) Ils D) Elles

17 - 18. sorularda verilen cümlelerin Türkçe karşılığını işaretleyiniz.

17. Il a vu son fils regardant le match de tennis.

- A) Oğlunu tenis oynarken izliyor.
B) Tenis maçı izleyen oğlunu gördü.
C) Tenis oynarken birden oğlunu fark etti.
D) Tenis oynayan oğlunu izliyordu.

18. Temel lit le journal en écoutant la radio.

- A) Temel gazete okurken radyo dinleyemez.
B) Temel radyo dinlerken gazete okuyor.
C) Temel radyo dinlerken gazete okuyamaz.
D) Temel gazete okurken radyo dinledi.

19 ve 20. sorularda verilen cümlelerin Fransızca karşılığını işaretleyiniz.

19. Süt içen çocuklar sınıftan çıktılar.

- A) Les enfants buvant du lait sont sortis de la classe.
B) J'ai vu des enfants buvant du lait dans la rue.
C) Des enfants veulent boire du lait dans le jardin.
D) Des enfants prenant du lait entrent dans la classe.

20. Televizyon izlerken ödevlerini yapıyorlardı.

- A) Ils mangeaient devant la télévision.
B) Ils ont fait leurs valises en regardant la télévision.
C) Ils s'endormaient en regardant la télévision.
D) Ils faisaient leurs devoirs en regardant la télévision.

(403) DİL VE ANLATIM – 3

1. Telefonum çaldı, açtım. Arkadaşım: "Kaç saattir seni bekliyorum, neredesin?" dedi.

Bu olayda aşağıdaki iletişim öğelerinden hangisine yer verilmemiştir?

- A) Gönderici B) Kanal
C) Dönüt D) İleti

2. Huzurun, mutluluğun tek adresi: Mavi Rüya Tatil Köyü. Aradığınız her şey burada: Doğa, spor, eğlence, tarih. Vakit kaybetmeden yerinizi ayırın. Rezervasyon için 0 06 23 numarasını arayın.

Bu parçada dil hangi işlevde kullanılmıştır?

- A) Heyecana bağlı işlev
B) Kanalı kontrol işlevi
C) Alıcıyı harekete geçirme işlevi
D) Şiirsel (sanatsal) işlev

1. OTURUM

3. Aşağıdakilerden hangisi iletişimin öğelerinden değildir?

- A) Bağlam B) Saygı
C) Kanal D) Kaynak

4. Aşağıdakilerden hangisi sunumdan önce yapılması gerekenlerden değildir?

- A) Ses tonuna, jest ve mimiklere dikkat etmek
B) Prova yapmak
C) Değişik kaynaklardan yararlanmak
D) Sunum yerini önceden görmek

5. Bir yazıya başka bir yazarın eserinden olduğu gibi cümle ya da bölümler almaya - - - - denir.

Bu tanımda boş bırakılan yere aşağıdakilerden hangisi getirilmelidir?

- A) özet çıkarmak
B) alıntı yapmak
C) not çıkarmak
D) rapor yazmak

6. Benim gibi düşünmeyenlere çok şey borçluyum. Bana taban tabana karşıt olsalar da benim düşündüklerimi çürütmekten başka bir amaç gütmeseler de hınca kapılmaz, aklımı kullanırsam bugün düşünmenin büyük ölçüde ön koşulu, vazgeçilmez yardımcısıdır onlar. Eğer onlar olmasa düşüncelerimi düzenleyemez, belirli bir yapıya dönüştüremezdim. Karmaşık düşünceler topluluğu arasında kaybolur giderdim.

Bu parçanın ana düşüncesi aşağıdakilerden hangisidir?

- A) İnsanı başarıya ulaştıran, düzenli çalışmasıdır.
B) Kendimizle aynı düşünmeyen insanların düşüncelerine de saygı göstermeliyiz.
C) Karşıt düşünceye sahip insanlar da ortak bir noktada buluşabilir.
D) Kişinin sistemli düşünmesini sağlayan şey karşıt düşüncelerdir.

7. Bazı yazarlar şiirlerini tamamen soyut kavramlarla örüyor. Şiirde soyuta, anlamsızlığa kaçma; işin kolayını arama, kendini gizleme duygusundan geliyor. Güçlü olan açık olur oysa. Ozanı derinliğe, düşünce yoğunluğuna ulaştıran, başarıya götüren açık söyleyiştir. Geçmiş, açık söyleyen aydınların günümüze kaldığını gösteriyor.

Bu parçada ağır basan anlatım biçimi aşağıdakilerden hangisidir?

- A) Mizahi anlatım
B) Betimleyici anlatım
C) Öyküleyici anlatım
D) Tartışmacı anlatım

8. Aşağıdaki cümlelerin hangisinde dolaylı anlatıma başvurulmuştur?

- A) Kendini yargılamanın başkalarını yargılamaktan daha zor olduğunu söyledi.
B) "9. Hariciye Koğuşu" romanı psikolojik roman örneğidir.
C) Dedem, korkularınızın esiri olursanız hep mutsuz olursunuz, derdi.
D) Dünyayı nasıl insansız düşünmezsek insanı da kitapsız düşünemeyiz.

9. Kumulların arasındaki geniş çöl düzlükleri "sebha" olarak biliniyor. Tuz tabakası bazı yerlerde arabayla üstünden geçecek kadar sert olsa da bazı bölgelerde kumun çökmesiyle kırılıyor. Donovan Webster: "İşin püf noktası yumuşak yerlerden yavaş çıkıp bu arada aracın hızını düşürmemek." diyor. "Durmanız, kuma saplanmanız demek."

Bu parçanın anlatımıyla ilgili aşağıdakilerden hangisi söylenmez?

- A) Dolaylıdır. B) Nesnelidir.
C) Somuttur. D) Açıklayıcıdır.

10. İskender Pala'nın son kitabını bir solukta okudum. Bize hayatın içinden bir hikâye sunmuş. Kullandığı dille de bunu desteklemiş. Bir çay bahçesinde koyu bir sohbete dalmış gibi hissediyorsunuz kendinizi. Bunu yaparken de ifadeleri asla gereksiz yere uzatmamış, hiçbir ifade tekrarına düşmemiş.

Bu parçada İskender Pala'nın kitabıyla ilgili aşağıdaki özelliklerden hangisine değinilmemiştir?

- A) Doğallık B) Duruluk
C) İlginçlik D) Akıcılık

11. Kısmen de olsa kendimi tümüyle sorumlu hissediyorum bu olayda.

Bu cümledeki anlatım bozukluğunun giderilmesi için aşağıdakilerden hangisi yapılmalıdır?

- A) "bu olayda" sözü, cümlenin başına getirilmeli.
B) "sorumlu hissediyorum" sözü yerine "suçluyorum" sözü getirilmeli.
C) "kendimi" sözcüğü cümleden atılmalı.
D) "kısmen de olsa" veya "tümüyle" sözlerinden biri atılmalı.

12. (I) O, bu tür konularda tartıştığımızda aynı şeyi yapıyor. (II) Onun hiçbir düşünceye, hiçbir fikre saygısı yok. (III) Bu nedenle de artık onunla tartışmaya girmeyeceğim. (IV) Kendisi de yanlış yaptığının mutlaka farkına varmalı.

Bu parçada numaralanmış cümlelerin hangisinde gereksiz sözcük kullanıldığı için duruluk bozulmuştur?

- A) I. B) II. C) III. D) IV.

13. (I) Pencereler açık, perdeler kırılmıyor; bir de bülbüller ötüyor. (II) Çiçeklenen ağaçlara, yeşeren toprağa sevinerek bakıyorum. (III) Sonunda hırçın kışı geride bırakıyoruz. (IV) Güneş, insanlara yaşama sevinci veriyor.

Bu parçada numaralanmış cümlelerin hangisinde alışılmamış bağdaştırma vardır?

- A) I. B) II. C) III. D) IV.

1. OTURUM

14. "Spor" konusu, aşağıdakilerin hangisinde diğerlerinden daha çok sınırlandırılmıştır?

- A) Sporda başarı
- B) Türk futbolunda başarı
- C) Avrupa futbolunda başarı
- D) Futbolda başarı

15. Aşağıdakilerden hangisi tartışmanın sağlıklı bir şekilde yapılmasını engeller?

- A) Tartışmacılardan biri yanlış bir şey söylediğinde hemen sözü kesilerek uyarılmalı.
- B) Konuşmalar kısa, öz ve anlaşılır bir dille yapılmalı.
- C) Ortaya sürülen düşünceler bilimsel verilere, kanıtlara dayanmalıdır.
- D) Amaç düşünceyi düşünceyle çürütmek olduğu için duygusallığa yer verilmemelidir.

16. Aşağıdakilerden hangisi panelin özelliklerinden biri değildir?

- A) Dinleyiciler tartışmaya aktif olarak katılır.
- B) Amaç, bir karara varmaktan çok sorunu çeşitli yönleriyle ele almaktır.
- C) Konuşmacı sayısı üç ile altı arasında değişir.
- D) Bir başkan vardır, konuşmacılar başkanın verdiği sıraya ve süreye göre konuşur.

17. Karşı Binboğa Dağı som yalıma kesti. Koca dağ güneş gibi oldu. Yıldızlar savruluyor. Binboğa Dağı tepeden tırnağa kaynaşiyor, ta göğün yedinci katına kadar yıldız yıldız kaynaşıp savruluyor. Binboğa Dağı yalım yalım kalktı, yürüdü Çukurova'nın üstüne. Dedesi karanlık bir duvar gibi geçti dikildi koca dağın önüne. Bekledi. Çakmak çakmak gözlelerinden yıldırımlar saçıyordu.

Bu parçanın anlatımıyla ilgili olarak aşağıdakilerden hangisi söylenemez?

- A) Betimleyici ve öyküleyici anlatıma başvurulmuştur.
- B) Anlatım öznedir.
- C) Somut bir anlatım vardır.
- D) Anlatım, gözlemci anlatıcının bakış açısıyla yapılmıştır.

18. Aşağıdaki cümlelerin hangisinde kahraman anlatıcı bakış açısı kullanılmıştır?

- A) Yusuf ile kardeşi lahmacunun son lokmalarını merdivenleri çıkarken yediler.
- B) Annem usulca sokuldu yanıma, elini uzattı, yüzümü okşadı.
- C) Koşar adım sokaklardan geçti, bir duvara tırmanıp geniş bir avluya atladı.
- D) Tamer koridora girdi, kapının yanındaki yediveren gülünü hiç fark etmemişti.

19. Fakültedeki odamdan bahçeye baktığımda karşığı büyük beton binaların önünde, âdeta onlarla boy ölçüşen fakat onlardan habersiz, göklere yükselen ağaçları görürüm. Donmuş, sert, katı bir geometrik şekilden ibaret olan bu binayı bana güzel gösteren bu ağaçlardır. Onların her mevsim hatta her gün, sabah akşam değişen şekilleriyle bu beton geometri arasında bir zıtlık vardır. Beton geometri daima aynı katı gerçeği tekrarladığı hâlde bu özgür ağaçlar her gün ve her mevsim değişen şarkılarını söylerler.

Bu parçanın konusu aşağıdakilerden hangisidir?

- A) Betonlaşmanın hızı
- B) Ağacın güzelliği
- C) Mevsimlerin farklılıkları
- D) Doğayı korumak

20. Yazılı edebiyat, kültür dilinin en büyük hazinesini oluşturur. Günlük dilden ve sözlü edebiyattan yüzlerce defa zengindir. Bunun sebebi, yazının binlerce yıllık sözleri saklaması ve biriktirmesidir. Bu tür eserler arasında eski çağlara ait inanç ve ilim kitapları da vardır. Bunlarda yazılı olanlar bugüne uymasalar bile kültür tarihi bakımından değer taşır. Zira onlar bize eski çağda yaşamış insanları tanıtır.

Bu parçadan aşağıdaki yargılardan hangisine ulaşılamaz?

- A) Edebiyat, kültürün nesilden nesile aktarılmasını sağlar.
- B) Yazılı edebiyat, dilin zenginliğini ortaya koyar.
- C) Eserler yazıldıkları çağın özelliklerini yansıtır.
- D) Kültür dili, milletlerin en önemli hazinesidir.

(404) DİL VE ANLATIM – 4

1. (I) Sessiz sessiz yağmış bütün gece kar. (II) Soğuk soğuk giysiler yapıyor tene. (III) Ötelerden uzun uzun uluyor rüzgâr. (IV) Derimizden içeri bir tuz sızıyor acı acı.

Bu parçada numaralanmış cümlelerin hangisinde ikileme farklı bir türde kullanılmıştır?

- A) I. B) II. C) III. D) IV.

2. En acı şeylerden biri, hastayken aranmamaktır.

Bu cümlede aşağıdaki sözcük türlerinden hangisi yoktur?

- A) Zarf
- B) Niteleme sıfatı
- C) Kişi zamiri
- D) Belgisiz zamir

3. Tanımadığımız bir dünyaya doğduk bu sabah. Böyle miydi dün sabah? İğne deliğinden sızan ışıklar bir ışıldak keskinliğiyle doldurmuştu odayı. Her şeyin rengi çekilmiş bugün. Karşığı taraçanın kızıl tentesi solmuş, yandaki evin yeşil camları donuk. Bir asker çadırı var sanki üzerimizde. Yamalı, yer yer küllengi... Denize moloz dökülmüş gibi.

Bu parçanın anlatımında ağır basan anlatım biçimi aşağıdakilerden hangisidir?

- A) Açıklayıcı anlatım
- B) Öyküleyici anlatım
- C) Betimleyici anlatım
- D) Tartışmacı anlatım

4. Aşağıdaki cümlelerin hangisinde farklı türde bir eylemsi kullanılmıştır?

- A) Uzun yol yorgunluğunun üstüne yüklenen olaylar onu iyice bitkin düşürmüştü.
- B) Cambazla maymuncuyu düşününce gönlü biraz ferahladı.
- C) Yaşlı adam korka titreye bir elini gömleğine deydirdi.
- D) Endişeli bir duyguyla keçeyi hızla kaldırıp baktığında korktu.

1. OTURUM

5. Bağdat'ın kapısını Genç Osman açtı, Düşmanın cümlesi önünden kaçtı, Kelle koltuğunda üç gün savaştı, Allah Allah deyip geçer Genç Osman!..

Bu metnin anlatım türü aşağıdakilerden hangisidir?

- A) Emredici anlatım
B) Mizahi anlatım
C) Açıklayıcı anlatım
D) Destansı anlatım

6. Hâlâ uçmaktaydı Atreju. Üzerine bindiği ejderha, uykusunda da uçabiliyordu. Kamaron Galaksisi'ndeki Pana gezegenine bir an önce varmalıydı. Kertenkele kafalı Tureks kuşlarının oraya saldıracağını öğrendiğinde hiç vakit kaybetmeden yola çıkmıştı. Arkadaşı Tamino da oradaydı.

Bu parçanın anlatım türü aşağıdakilerden hangisidir?

- A) Destansı anlatım
B) Coşku ve heyecana bağlı anlatım
C) Düşsel anlatım
D) Mizahi anlatım

7. Her taraf suyla kaplıydı, uçsuz bucaksız su... Son erimeden sonra iklim hızla değişmiş, dünya sular altında kalmıştı. Dev dalgalar toprağı bir kerede yutmuştu. Morge ve Yemliya bu koca gemide tanışmışlardı. Diğerleri gibi onlar da bir yerlerde kara parçası bulmanın umuduyla yaşıyorlardı. Başka gemiler var mıydı, bilmiyorlardı. Tek besin kaynakları denizden yakaladıklarıydı.

Bu parçanın anlatım türü aşağıdakilerden hangisidir?

- A) Söyleşmeye bağlı anlatım
B) Gelecekte söz eden anlatım
C) Emredici anlatım
D) Destansı anlatım

8. Bir adam koşa koşa Nasrettin Hoca'nın yanına gelmiş, soluk soluğa: "Nasrettin Hoca, bir adam koca bir tepsi baklavayla geçti şuradan." demiş. Nasrettin Hoca da "Bana ne!" demiş. Adam: "İyi de baklavayı sizin eve götürüyordu Nasrettin Hoca." deyince Nasrettin Hoca da "Eee, o zaman sana ne!" demiş.

Bu parçanın anlatım türü aşağıdakilerden hangisidir?

- A) Mizahi anlatım
B) Açıklayıcı anlatım
C) Düşsel anlatım
D) Gelecekte söz eden anlatım

9. Şoför seslendi:
- Rahmi! Tenekeye su koy.
- Demin koyduk ya usta!
- Sus be! Yol fena, motor su kaynatıyor.

Yol birçok şoförün "çok güzel" dediği virajsız, yokuşsuz, sadece çakılları fırlamış bir şose idi. İki tarafında ağaçlar dizilmişti. Rahmi, tenekesiyle inip yol kenarında su aramaya başladı.

Bu parçada aşağıdaki anlatım türlerinin hangisinden yararlanılmamıştır?

- A) Tartışmacı anlatım
B) Betimleyici anlatım
C) Söyleşmeye bağlı anlatım
D) Öyküleyici anlatım

10. Aşağıdaki cümlelerin hangisinde "hızlı" sözcüğü zarf görevinde kullanılmamıştır?

- A) Kardeşim arabayı her zaman hızlı kullanır.
B) Hızlı hareket ediyor bütün çocuklar.
C) Sana kaç kere söyledim "Hızlı yeme!" diye.
D) Hızlı uçakların manevra kabiliyeti de yüksektir.

11. "Ne ... ne" bağlacı aşağıdaki cümlelerden hangisine "ortasında, arasında" anlamı katmıştır?

- A) Bu dükkâna ne bir daha gelirim ne de önünden geçerim.
B) Bu kıraç topraklarda ne bir ağaç ne bir ot yetişir.
C) Ne açım ne tokum, yesem mi yemesem mi bilemedim.
D) Bu sıralar ne dışarı çıkıyor ne bizimle konuşuyor.

12. Açık olmak, aydınlık söylemek derinliğe, güçlülüğe, yaratıcılığa engel değildir. Çetin, bulanık söylemek de her zaman derin düşünmek anlamına gelmez. Bunun en ilginç örneklerini şiirde görürüz. Açıklığın en tatlı örneklerini veren Yunus Emre'nin derinliğini birçok düşünürde bulamazsınız. Firdevsi ve Hayyam da açık söylemiş. İşte bu yüzden eskimek bilmiyorlar bir türlü.

Bu parçanın anlatımıyla ilgili aşağıdakilerden hangisi söylenemez?

- A) Kanıtlayıcı anlatıma başvurulmuştur.
B) Tanımlamalara yer verilmiştir.
C) Dil göndergesel işlevde kullanılmıştır.
D) Karşılaştırma ve örneklemeden yararlanılmıştır

13. "İle" sözcüğü aşağıdaki cümlelerin hangisinde "ve" bağlacının yerine kullanılmıştır?

- A) Kıskançlıkla şüphe insan ilişkilerine zarar verir.
B) Ben duygularımı her zaman babamla paylaşıyorum.
C) Torunlarıyla mutlu dakikalar geçirmişti.
D) Boş sayfanın üzerine kalemle birkaç şekil çizdi.

1. OTURUM

14. (I) Şu bu derken birdenbire kendimi karanlık, koca bir şatoda buluverdim. (II) Şatoya nasıl girdiğimi hiç fark etmedim. (III) Ah, şuradan bir çıkabilsem! (IV) Rüyaymış meğer, salondaki koltukta uyuyakalmışım.

Bu parçada numaralanmış cümlelerdeki fiillerin yapısı aşağıdakilerin hangisinde yanlış verilmiştir?

- A) I. cümledeki yaklaşma kurallı birleşik fiildir.
B) II. cümledeki yardımcı eylemle oluşan birleşik fiildir.
C) III. cümledeki yeterlik kurallı birleşik fiildir.
D) IV. cümledeki sürerlik kurallı birleşik fiildir.

15. **Aşağıdakilerden hangisinin dönüşlü bir fiildir?**

- A) Bütün eşyalar yerleştirildikten sonra perdeler takıldı.
B) Çocuk, yaşlı adama yol vermek için biraz kenara çekildi.
C) Müdür, rahatsızlanınca acilen hastaneye kaldırıldı.
D) Kaybolan ihale dosyası kaloriferin arkasında bulundu.

16. **Aşağıdakilerin hangisinde fiil haber kipiyle çekimlenmemiştir?**

- A) Evin dış cephesi yazın yalıtım malzemesiyle kaplanacak.
B) Arılar kırlardaki rengârenk çiçeklerden bal özü topluyor.
C) Zabıtalılar pazardaki esnafın terazilerini kontrol etti.
D) Parasını böyle gereksiz işlere, eşyalara harcamamalı.

17. **Aşağıdaki cümlelerin hangisinde kişi zamiri kullanılmıştır?**

- A) Bu devirde herkes, çıkarını düşünüyor ne yazık ki!
B) Onu kasaya kilitle, içindeki bilgiler çok önemli.
C) Gittiğim yerden sana güzel bir hediye getireceğim.
D) Dün teslim edilen kargonun kimden geldiğini bilmiyormuş.

18. Ailesi, parayı hiç önemsemezdi.

Bu cümlede aşağıdakilerden hangisi yoktur?

- A) Cins isim B) Topluluk ismi
C) Tekil isim D) Soyut isim

19. Bir padişahın üç kızı varmış. Devler bu kızları almak için her yıl buraya hücum eder fakat bir türlü alamazlarmış.

Bu parçada aşağıdakilerden hangisi yoktur?

- A) Bağlaç B) Ünlem
C) Edat D) Zarf

20. (I) Hasta hemen doktora derdini anlattı. (II) Koltuğunun altındaki röntgenleri çıkardı. (III) Bu sırada doktor muslukta ellerini yıkadı. (IV) Sonra ellerini özenle kuruladı.

Bu parçada numaralanmış cümlelerin hangisinde yapıca farklı bir fiil vardır?

- A) I. B) II. C) III. D) IV.

(405) DİL VE ANLATIM – 5

1. **Sanatsal ve öğretici metinlerle ilgili yapılan aşağıdaki karşılaştırmalardan hangisi yanlıştır?**

- A) Sanatsal metinlerde amaç estetik zevk uyandırmakken öğretici metinlerde bilgi vermektir.
B) Sanatsal metinlerde kurmaca, öğretici metinlerde gerçeklik ön plandadır.
C) Sanatsal metinlerde dil ve anlatıma dikkat edilir, öğretici metinlerde ise bu çok önemli değildir.
D) Sanatsal metni okuyan kişiler ayrı bir anlam, öğretici metni okuyanlar ise aynı anlam çıkarır.

2. **Aşağıdaki cümlelerin hangisinde gereksiz sözcük kullanıldığı için anlatımın duruluğu bozulmuştur?**

- A) Koleksiyonumda hemen hemen 300 kadar eser var.
B) Ateşin üstündeki tencere kısa sürede kaynadı.
C) Meraya yayılan hayvanlar taze otların keyfini sürüyordu.
D) Kahve fincanı olmadığından kahveyi çay bardağına koyduk.

3. Lise yıllarım, ilk gençliğim önemliydi benim için. Duygu ve düşüncelerimi, yaşadıklarımı günü güne yazdığım yazılarda, çocuktuktan bir gence nasıl evrildiğimi gördüm. Sonraları, yazmak için o kadar zamanım olmadı. Ama yaptığım görev nedeniyle yaşadığım önemli olayları da yazmasam olmayacaktı. Oturdum bir gün bunları yazdım. Baktım ki yazdıklarımdayla ilgili boşluklar var. Hayat bir bütün. Öyleyse, dedim; baştan sona tüm hayatımı yazmalıyım ve yazdım da.

Bu parçada kendisinden bahseden kişi aşağıdaki edebî türlerin hangisinde eser vermemiştir?

- A) Gezi yazısı
B) Otobiyografi
C) Günlük
D) Anı

4. Ahmet Muhip Dıranas 1909'da Sinop'ta doğdu. Ankara Hukuk Fakültesinde ve İstanbul Üniversitesi Edebiyat Fakültesi Felsefe Bölümünde okudu. Çocuk Esirgeme Kurumu, İş Bankası Yönetim Kurulu üyeliği yaptı. Zafer dergisinde yazıları yayımlandı. Şiirleriyle tanındı. Sahnelenmiş oyunları ve çevirileri de vardır.

Bu parçanın edebî türü aşağıdakilerden hangisidir?

- A) Anı B) Günlük
C) Biyografi D) Deneme

5. **“Durmak” sözcüğü, aşağıdaki bağlamların hangisinde farklı bir anlamda kullanılmıştır?**

- A) Dolmuş geldi, tam bizim önümüzde durdu.
B) Bizim Antalya'daki evimiz hâlâ duruyor.
C) Fır fır dönen topaç ayağıma çarpınca durdu.
D) Bahçede koşan çocuk onu görünce durmuş.

1. OTURUM

6. Aşağıdaki eser-sanatçı eşleştirmelerinden hangisi yanlıştır?

- A) Ayrılık Sevdaya Dâhil – Attila İlhan
B) Türk Sazı – Mehmet Emin Yurdakul
C) Türk'ün Ateşle İmtihanı – Halide Edip Adivar
D) Ziya'ya Mektuplar – Yusuf Ziya Ortaç

7. Bir gün, eski müşterilerinden olduğum bir çiçekçi dükkânının önünden geçiyordum. Dükkânın sahibi dışarı çıkıp “Hoş geldiniz Elçi Bey! Sizi buralarda görmek ne saadet, artık hiç gelmezsiniz sanıyorduk.” dedi. Çiçekçinin ağzımı aradığı şüphesine kapılarak “Neden? Görüyorum, kasabanız eskisinden daha canlı, daha kalabalık.” deyip yerli turist yığınlarını gösterdim. Adamcağız, acı acı gülümseyerek: “Bunlar mı? Elçi Bey, sadece dolaşır, para harcamaz.” dedi.

Bu parçanın edebî türü aşağıdakilerden hangisidir?

- A) Günlük B) Gezi yazısı
C) Sohbet D) Anı

8. (I) Çeşme açıklarında avlanan balıkçıların ağlarına davetsiz misafir takıldı. (II) İzmir’de balıkçı ağlarına takılan ilginç camgöz cinsi köpekbalığı, sergilendiği balıkçıda vatandaşların ilgi odağı oldu. (III) Yüksel İnce’nin yakaladığı balık, 3 metre uzunluğunda, 350 kilo ağırlığındaymış. (IV) Yüksel İnce, balığı bir süre daha şirin dükkânında sergilemeye devam edecekmiş.

Bu parçada numaralanmış cümlelerin hangisinde nesnel bir anlatım vardır?

- A) I. B) II. C) III. D) IV.

9. Aşağıdakilerden hangisi resmî mektup yazılırken dikkat edilecek özelliklerden değildir?

- A) Üst makama yazılıyorsa “rica ederim”, alt makama yazılıyorsa “arz ederim” şeklinde bitirilmeli.
B) Başlığın altındaki sol tarafa mektubun sayı ve numarası yazılmalı.
C) Kısaltma kullanılmamalı.
D) Sağ alt köşeye ad ve soyad yazılmalı, imza atılmalı.

10. Bir yazarın gazetelerde önemli, güncel konular üzerinde kişisel görüşlerini açıkladığı yazılardır. Yazar ele aldığı konuyu kanıtlamaya çalışmaz. Yazdıklarıyla okuru düşünmeye zorlar. Konuşma dilinin kısa, devrik cümleleriyle akıcı bir üslup oluşturulur. Bu nedenle ... çok okunan bir yazı türüdür.

Bu parçada boş bırakılan yere aşağıdakilerden hangisi getirilmelidir?

- A) Deneme B) Fıkra
C) Sohbet D) Günlük

11. Helsinki’yi dolaşıyoruz. Burası bir şehir değil, bir çiçek bahçesi... Evler, oteller, lokantalar, dükkânlar hep bir yeşil dekor içinde. Bahçeler, parklar eksik değil. Ağaçların altında, yolların kenarında beyaz boyalı kanepeler, koltuklar var. Burada genç, yaşlı, çocuk, isteyen oturup dinleniyor, okuyor, güneşliyor. Sokaklarda polis görmedim. Ulusal terbiye belli ki en yüksek basamağa varmış.

Bu parçada gezi yazısının aşağıdaki özelliklerinden hangisi örneklenmemiştir?

- A) Görülen çevre, tabii özellikleriyle anlatılır.
B) Yazar, gördüklerini kişisel yorumlarıyla aktarır.
C) Gezilen yerin kültürel özellikleri verilir.
D) Gezilen yerin tarihî hakkında bilgi verilir.

12. Aşağıdakilerden hangisi göstermeye bağlı edebî metinlerden biridir?

- A) Masal B) Mesnevi
C) Destan D) Karagöz

13. Maalesef edebiyat öğretimimiz yanlış. Edebiyat öğretiminde esas olan, okunan metin üzerinde öğrencinin düşünmesini; okuduklarını kendi diliyle, kendi algılamasıyla yeniden üretebilmesini sağlamaktır. Yoksa sorgulamadan metindeki anlamı tekrarlamak, önceden üretilmiş ve tanımlanmış bilgileri ezberlemek değildir. Edebiyat öğretiminden beklenen öğrencinin kuru bilgi sahibi olmasını sağlamak değildir. Öğrendiklerine hep bir şüpheyle bakmasını sağlamak, doğruluğu, yanlışlığı konusunda fikir jimnastiği yapmasını sağlamak esastır.

Bu parçada “edebiyat öğretimi” ile ilgili asıl eleştirilen düşünce aşağıdakilerden hangisidir?

- A) Öğrencilere okuma alışkanlığı kazandırılmaması
B) Eleştirel düşünceden yoksun olması
C) İyi metinlerin seçilmemesi
D) Edebî bilgilerin çok fazla olması

14. • İlk makale Şinasi’nin yazdığı “Tercümei Ahval Mukaddimesi”dir.
• Edebiyatımızdaki ilk biyografi yazarı Ali Şir Nevai’dir.
• İlk özel gazete “Takvîm-i Vakâyi”dir.

Bu cümleler doğru (D), yanlış (Y) olarak değerlendirildiğinde doğru sıralama aşağıdakilerden hangisi olur?

- A) D - Y - D B) Y - D - Y
C) Y - Y - D D) D - D - Y

15. Dünyada olup biten günlük ve önemli olayları, tarafsız biçimde halka ulaştırmak amacıyla olan bir kişi, aşağıdaki yazı türlerinden hangisini kullanmalıdır?

- A) Mektup B) Haber yazısı
C) Deneme D) Makale

1. OTURUM

(406) DİL VE ANLATIM – 6

16. Aşağıdakilerden hangisi kişisel hayatı konu alan metinler içerisinde yer almaz

- A) Biyografi B) Fıkra
C) Anı D) Gezi yazısı

17. Günlükle ilgili aşağıda verilen bilgilerden hangisi yanlıştır?

- A) Anı, roman, gezi yazısı türünde eserler yazmada da yararlanılabilir.
B) Yazıldıkları dönemin özelliklerini yansıtmaları bakımından tarihe ışık tutar.
C) Anlatılanlar kanıtlanmak zorundadır.
D) Kişisel ve içten bir anlatım vardır.

18. Aşağıdakilerden hangisi öğretici metinlerin özelliklerinden değildir?

- A) Dil göndergesel işlevde kullanılır.
B) Kurmaca değil, gerçeklik ön plandadır.
C) Amaç; bilgi vermek, okuyucuyu aydınlatmaktır.
D) Her okuyan farklı yoruma ulaşır.

19. Aşağıda fıkra ile ilgili verilen bilgilerden hangisi onu makaleden ayıran en temel özelliğidir?

- A) Düşünce yazısı olması
B) Dilin göndergesel işlevde kullanılması
C) Kanıtlanmaya gerek olmaması
D) Anlatımın açık, sade ve duru olması

20. Aşağıdakilerden hangisi gölge oyununun bölümlerinden biri değildir?

- A) Bitiş B) Tekerleme
C) Mukaddime D) Fasil

1. Aşağıdaki eserlerden hangisi röportaj türünde yazılmıştır?

- A) Anadolu Notları
B) Çukurova Yana Yana
C) Yaprak Dökümü
D) Mai ve Siyah

2. Aşağıdakilerden hangisi Türk edebiyatında mülakatlarıyla tanınmış sanatçılarımızdandır?

- A) Ruşen Eşref Ünaydın
B) Cenap Şehabettin
C) Orhan Pamuk
D) Yakup Kadri Karaosmanoğlu

3. Ünlü kişilerin çeşitli yönlerini tanıtmak veya toplumu ilgilendiren önemli bir konuyu aydınlatmak için ünlü kişilerle yapılan görüşmeleri, sorulu-cevaplı aktaran yazılara - - - - denir.

Bu cümlede boş bırakılan yere aşağıdakilerden hangisi getirilmelidir?

- A) deneme B) mülakat
C) forum D) söylev

4. Mülakatla ilgili aşağıda verilen bilgilerden hangisi doğrudur?

- A) Konunun ayrıntılarına girilir.
B) Alınan cevaplar, yorum katılarak aktarılır
C) Aynı konuda yazı dizisi olarak yazılır.
D) Dil göndergesel ve alıcıyı harekete geçirme işlevinde kullanılır.

5. Siyasi parti adaylarının seçim meydanlarında halka yaptıkları konuşmalar aşağıdakilerden hangisine örnektir?

- A) Askeri söylev
B) Akademik söylev
C) Siyasi söylev
D) Hukuksal söylev

6. Sevgili Gençler! Başarılı olma yolunda senin ilk büyük düşmanın tembelliktir. Burada size tembelliği tarif edecek değilim. Onu sen, ben, hepimiz az çok tanırız. O, adamın karşısına çıkıp mertçe savaşan bir düşman değildir.

Bu parça aşağıdaki edebî türlerden hangisine örnektir?

- A) Mülakat B) Röportaj
C) Söylev D) Deneme

7. Aşağıdaki yazar-eser eşleştirmelerinden hangisi yanlıştır?

- A) Fikret Otyam – Bu Diyar Baştan Başa
B) Hikmet Feridun Es – Bugün de Diyorlar ki
C) Yaşar Kemal – Çukurova Yana Yana
D) Nurullah Berk – Ustalarla Konuşmalar

8. Aşağıdakilerden hangisi röportajın özelliklerinden değildir?

- A) Ses kayıtları, belge ve fotoğraflarla desteklenir.
B) Dil göndergesel işlevde kullanılır.
C) Belgesel bir nitelik taşır.
D) Güncel konularda yazıldığı için kalıcı bir yazı türü değildir.

9. Bir söylevci aşağıdakilerden hangisini yapmamalıdır?

- A) Vurgu ve tonlamaya dikkat etmeli.
B) Etkili olmak için abartılı ve süslü bir anlatıma başvurmalı.
C) Hitap ettiği topluluğun kültür düzeyini göz önünde bulundurmalı.
D) Dinleyicilerin ilgisini çekecek cümlelerle söyleve başlamalı.

1. OTURUM

10. • Mülakatlarda konuşma yapılan kişi ile konuşulanların dışına çıkmaz.
• Söylevde öyküleyici anlatım biçimi kullanılır.
• Röportaj, dergi ve gazete yazıdır.
- Bu cümleler doğru (D), yanlış (Y) olarak değerlendirildiğinde doğru sıralama aşağıdakilerden hangisi olur?**
- A) D - Y - D B) Y - Y - D
C) D - D - Y D) Y - D - Y
11. **Konu yönünden bir yeri ele alan röportaj türü, aşağıdaki edebî türlerden hangisiyle benzerlik gösterir?**
- A) Hatıra B) Roman
C) Gezi yazısı D) Haber yazısı
12. **Aşağıdaki sanatçılardan hangisi söylev türünde eser vermiştir?**
- A) Mustafa Baysal
B) Halit Ziya Uşaklıgil
C) Reşat Nuri Güntekin
D) Rıza Tevfik Bölükbaşı
13. **Bir topluluğun önünde belli bir fikri, bir duyguyu aşlamak için söylenen etkili ve inandırıcı konuşmalara verilen ad aşağıdakilerden hangisidir?**
- A) Deneme B) Nutuk
C) Röportaj D) Mülakat
14. **Aşağıdakilerden hangisi söylev türünün dünyada ilk örneklerini veren sanatçılardan biridir?**
- A) Balzac
B) Shakespeare (Şekspir)
C) Cicero (Çıçero)
D) Dostoyevski
15. **“Nutuk” sözlü anlatım türünde dilin aşağıdaki işlevlerinden hangisi kullanılmaz?**
- A) Dil ötesi işlev
B) Heyecana bağlı işlev
C) Alıcıyı harekete geçirme işlevi
D) Kanalı kontrol işlevi

16. **Aşağıda verilen bilgilerden hangisi yanlıştır?**
- A) Eşyayı konu alan röportajlarda bir eşya, dikkat çekecek ve okuyanları düşündürecek bütün yönleriyle anlatılır.
B) Akademik söylev, bilimsel toplantılarda ilim ve fen insanların yaptıkları konuşmalara denir.
C) Mülakatta sorular, herkesin anlayabileceği biçimde açık olmalıdır.
D) Röportajda yazılanların kanıtlanma ihtiyacı yoktur.
17. – Çocuklar ne ifade ediyordu Rifat Ilgaz için?
– Çocuklar farklıydı babam için. Öykülerinde kullandığı sözcükleri bile çocukların dilinden seçerdi.
– “Hababam Sınıfı”nda yazar nasıl bir mizah anlayışıyla karşımıza çıkıyor?
– Hababam Sınıfı’nı gülsünler diye yazmadığını söylerdi babam. Aslında burada ezenle ezilen arasındaki çelişkileri göstermek istemiştir.
- Bu parça aşağıdaki edebî türlerin hangisinden alınmıştır?**
- A) Anı B) Söylev
C) Mülakat D) Eleştiri
18. Kişinin anlattıklarının ve söylediklerinin bir önceki anlattıkları ve söyledikleriyle çelişmemesine - - - - denir.
- Bu cümlede boş bırakılan yere aşağıdakilerden hangisi getirilmelidir?**
- A) akıcılık B) tutarlılık
C) yalınlık D) bağdaşıklık
19. I. Mülakat
II. Söylev
III. Röportaj
- Yukarıda numaralanmış anlatım türlerinden hangileri gazete ile gelişim göstermiştir?**
- A) Yalnız I. B) Yalnız III.
C) I ve II. D) I ve III.

20. **Aşağıdakilerden hangisi röportajda kullanılan anlatım biçimlerinden biri değildir?**
- A) Düşsel B) Kanıtlayıcı
C) Öğretici D) Açıklayıcı

(407) DİL VE ANLATIM – 7

1. Bir adam pazardan altın bir tavuk almış. Tavuk her gün bir altın yumurta yumurtluyormuş. Bu durumu öğrenen adam çok sevinmiş. Sevinmiş sevinmesine de tavuğun içinde hazine olduğunu zannetmiş. Tavuğu kesip içindeki altınları çıkararak bir an önce zengin olmak istemiş. Tavuğu kesip karnını açtığında hazine olmadığını görmüş. O da diğer tavuklar gibiymiş. Ne çare ki iş işten geçmiş.
- Bu fablın teması aşağıdakilerden hangisidir?**
- A) Bencilik B) Açgözlülük
C) Plansızlık D) Tutarsızlık
2. **Aşağıdakilerden hangisi halk hikâyelerini oluşturan bölümlerden biri değildir?**
- A) Söyleşi B) Dua
C) Döşeme D) Asıl olay
3. Sevdan ki bir yıkıcı kuştur yüreğimde
Gümbürder zulme karşı kan gibi
- Bu dizelerdeki söz sanatı aşağıdakilerden hangisidir?**
- A) Kişileştirme
B) Kinaye
C) Güzel nedene bağlama
D) Benzetme
4. Unuttum, elleri nasıldı annemin
Unuttum, gözleri nasıldı bakarken.
Anne kokusu getirsin rüzgâr
Yağmur usulcacık yağarken
- Bu dördünlüğün teması aşağıdakilerden hangisidir?**
- A) Yalnızlık B) Özlem
C) Gurbet D) Zaman

1. OTURUM

5. Aşağıdakilerin hangisinde kahraman (1. şahıs) anlatıcı bakış açısı vardır?

- A) Derviş Hasan hiddetinden sanki deli oldu. Yörük, arkadaşlarını çağırdı ve Derviş Hasan'ın başına üşüştüler.
- B) Çocuk apartmanın kapısından girdi. Hızlıca merdivenleri inip kömürlüğe saklandı.
- C) Bu on gün bana on sene gibi geldi. Gündüz hizmetliye gazeteleri aldırır, bütün gün onları okurdum.
- D) Kumandan atına atladı ve atını şahlandıranak düşmanın üzerine doğru dörtlüğe sürdü.

6. Aşağıdakilerden hangisi öğretici metinleri sanatsal metinlerden ayıran bir özellik değildir?

- A) Amaç okuyucuya doğrudan bilgi vermektir.
- B) Üslup kaygısı vardır.
- C) Dil göndergesel işlevde kullanılır.
- D) Gerçeklik ön plandadır.

7. Aşağıdakilerden hangisi masalların genel özelliklerinden değildir?

- A) Anonim bir türdür.
- B) Çok fazla yerel özellikler taşımaz.
- C) Tekermemeye başlar.
- D) Dilin göndergesel işlevi kullanılır.

8. Aşağıdaki dizelerin hangisinde teşhis (kişileştirme) sanatı yapılmıştır?

- A) Dindi türküsü yaralı cırcır böceğinin Onu artık kim sorar, kim anımsar?
- B) Ağzımda mavi bir ıslık Omuz başımda yıldızlar
- C) Aydınlık ve ince bakışların vardı Coşardı çevren bir söz söylediğinde
- D) El ayak çekildi Gecenin gölgesine bir düş gibi uzandın

9. Vaktiyle, bilmem ne memlekette hüküm süren bir padişahın küçük oğlu, rüyada gördüğü dünya güzeli bir kıza âşık olur ve sevgilisini bulmak ümidiyle yollara düşer. Bereket versin daha ilk adımı, bizim sevdalı şehzadeye uğurlu gelir. Takatten düşmüş bir ninenin kuyudan su çekmeye çalıştığını görünce koşar yardım eder. Bundan çok memnun olan kadıncağız, kendi saçından kopardığı iki teli ona vererek der ki: "Oğlum, başın darda kaldığı zaman bu iki kılı birbirine çakarsın; bir dudağı yerde, bir dudağı gökte bir Arap çıkar karşına. Adı Abbas'tır. Karnın mı acıktı? Abbas, dersin; sana mükellef bir sofa kurar."

Bu parçada, masalın aşağıdaki özelliklerinden hangisi örneklenmemiştir?

- A) Tekermemelere yer verilir.
- B) Yer ve zaman kavramı belirsizdir.
- C) Olağanüstülükler yer verilir.
- D) Dil sanatsal işlevinde kullanılır.

10. Aşağıdakilerden hangisi durum hikâyeciliğinin özelliklerindenidir?

- A) Gerçeklik abartılarak anlatılır.
- B) Serim düğüm, çözüm planına uyulur.
- C) Kahramanlar arasındaki çatışma ve karşılaşmalar önemlidir.
- D) Merak ögesi ikinci plandadır.

11. Kimsede hiç para kalmamıştı. Hasan, bütün obanın kadınlarından, kızlarından birer altın topluyordu. Belki de kadınlar son altınlarını veriyorlardı. O gece, Abdullah altınları getirdi; babasına verdi. Süleyman Kâhya önüne getirilen kulplu altınları ateşin ışığında saydı. İşte son servetleri de buydu.

Bu parçada anlatmaya bağlı edebî metinlerin yapı unsurlarından hangisi yer almamıştır?

- A) Zaman
- B) Kişi
- C) Yer
- D) Olay

12. Kara Mustafa, öyle olduğu yerde bakıp kaldı arkalarından. Anlayamadığı, aklının almadığı bir şey zonklayıp durdu ense kökünde. Yüreği bir cenderedeydi sanki. Sabahleyin Somuncu Baba'ya anlattığı yıldırım düşünüy hatırladı nedense. Dervişler öğlen sıcağında yola sıralanmış, çömelmiş, işlerine dalmışlardı. Taş tıktıkları, taşa hafif hafif vuran tokmak, çekiç sesleri geliyordu.

Bu parçayla ilgili aşağıdakilerden hangisi söylenemez?

- A) Olayın geçtiği mekân betimlenerek verilmiştir.
- B) Hâkim (ilahi) anlatıcının bakış açısıyla anlatılmıştır.
- C) Kahraman, ruh hâliyle yansıtılmıştır.
- D) Zaman unsuruna yer verilmiştir.

13. Aşağıdaki yazar – eser eşleştirmelerinden hangisi yanlıştır?

- A) Ahmet Mithat Efendi – Letaif-i Rivayat
- B) Halikarnas Balıkcısı – Merhaba Akdeniz
- C) Orhan Kemal – Ekmek Kavgası
- D) Memduh Şevket Esenal – Memleket Hikâyeleri

14. Aşağıdakilerden hangisi anlatmaya bağlı edebî türlerden değildir?

- A) Tiyatro
- B) Masal
- C) Roman
- D) Hikâye

15. Aşağıdakilerden hangisi Sait Faik Abasıyanık'ın hikâyelerinden biri değildir?

- A) Yüksek Ökçeler
- B) Alemdağ'da Var Bir Yılan
- C) Mahalle Kahvesi
- D) Lüzumsuz Adam

16. Aşağıdakilerden hangisi Türk halk tiyatrosu türlerinden değildir?

- A) Meddah
- B) Karagöz
- C) Komedi
- D) Orta oyunu

1. OTURUM

17. Aşağıdaki halk hikâyelerinden hangisi Türk kaynaklıdır?

- A) Ferhat ile Şirin
- B) Köroğlu
- C) Leyla ile Mecnun
- D) Kelile ve Dimne

18. Aşağıdakilerden hangisi dünya edebiyatında fabl türünde eser veren ilk sanatçılardan değildir?

- A) La Fontaine
- B) Şeyh Sadi
- C) Montaigne
- D) Aisopos (Ezop)

19. Aşağıdakilerin hangisinde trajedi ile ilgili yanlış bir bilgi verilmiştir?

- A) "Üç birlik" kuralına uyulur.
- B) Öldürme, yaralama gibi acı olaylar sahnede gösterilmez.
- C) Kişiler çoğunlukla halktan kim-selerdir.
- D) Nazımla yazılır.

20. Aşağıdakilerden hangisi aşk konulu halk hikâyelerindendir?

- A) Danişment Gazi
- B) Dedé Korkut
- C) Köroğlu
- D) Kerem ile Aslı

(413) TÜRK EDEBİYATI – 3

1. Edebiyat tarihinin doğrudan ilişkili olduğu bilim dalı aşağıdakilerden hangisidir?

- A) Biyoloji
- B) Filoloji
- C) Arkeoloji
- D) Psikoloji

2. Aşağıdakilerden hangisi edebiyat dışındaki güzel sanatlardan biri değildir?

- A) Mimari
- B) Resim
- C) Matematik
- D) Tiyatro

3. Orhun Anıtları aşağıdaki hangi devlet adamının adına dikilme-miştir?

- A) Bilge Kağan
- B) Kül Tigin
- C) Tonyukuk
- D) Ertuğrul Gazi

4. Türk dilinin günümüze kalan en eski ve en değerli belgeleri aşağıdakilerden hangisidir?

- A) Orhun Abideleri
- B) Divanü Lügati't Türk
- C) Karagöz
- D) Koşuk

5. Aşağıdakilerden hangisi Türklerin tarih boyunca kullandıkları alfabelerden biri değildir?

- A) Göktürk
- B) Japon
- C) Latin
- D) Arap

6. Türklerin İslamiyet'ten önce kullandığı alfabeler aşağıdaki-lerin hangisinde doğru verilmiştir?

- A) Göktürk, Uygur, Soğut
- B) Arap, Göktürk, Uygur
- C) Latin, Kiril, Soğut
- D) Uygur, Latin, Kiril

7. İslamiyet öncesi Türk edebiyatıyla ilgili olarak aşağıda verilenlerden hangisi yanlıştır?

- A) Şiirlerde hece ölçüsü kullanılmıştır.
- B) Sözlü ürünlerin yaygın olduğu bir dönemdir.
- C) Türkçenin ilk yazılı metinleri bu dönemde-dir.
- D) Farklı kültürlerin ve yabancı dillerin etkisi fazladır.

8. Aşağıdakilerden hangisi Türk edebiyatının ana dönemlerinden biri değildir?

- A) İslamiyet Öncesi Türk Edebiyatı
- B) İslami Dönem Türk Edebiyatı
- C) Cumhuriyet Dönemi Türk Edebiyatı
- D) Batı Etkisinde Gelişen Türk Edebiyatı

9. Aşağıdakilerden hangisi Türk halk edebiyatının kollarından biri değildir?

- A) Anonim halk edebiyatı
- B) Dinî-tasavvufi halk edebiyatı
- C) Âşık tarzı halk edebiyatı
- D) Yazılı halk edebiyatı

10. Aşağıdakilerden hangisi İslamiyet'ten önce, çeşitli Türk boylarında sanatçılara verilen isimlerden biri değildir?

- A) Şaman
- B) Baksı
- C) Kam
- D) Kopuz

11. Aşağıdakilerden hangisi İslamiyet Öncesi Türk Edebiyatı yazılı ürünlerindendir?

- A) Göktürk Yazıtları
- B) Göç Destanı
- C) Alper Tunga Sagusu
- D) Atabetü'l Hakayık

12. Aşağıdakilerden hangisi Batı etkisinde gelişen Türk edebiyatı türlerinden biri olamaz?

- A) Roman
- B) Deneme
- C) Sagu
- D) Makale

13. Aşağıdakilerden hangisi geçmiş dönemlerdeki destanlardan yola çıkılarak üretilen eserlerden biri değildir?

- A) Kolları Bağlı Odysseus
- B) Devlet Ana
- C) Bozkurtların Destanı
- D) Ölumsuzlük Ardında Gılgamış

14. Aşağıda verilen destanlardan hangisi İslamiyet Öncesi Dönem'e aittir?

- A) Çakır'ın Destanı
- B) Atatürk Kurtuluş Savaşı'nda
- C) Oğuz Kağan Destanı
- D) Maraş'ın ve Ökkeş'in Destanı

1. OTURUM

(414) TÜRK EDEBİYATI – 4

15. Aşağıdakilerden hangisi doğal destandır?

- A) Kurtuluş Savaşı Destanı
- B) Çanakkale Destanı
- C) Sakarya Meydan Savaşı
- D) Attila Destanı

16. Sözlü Edebiyat Dönemi'nin ürünüdür. Günümüz halk edebiyatındaki koşmanın ilk biçimidir. Tabiat, kahramanlık belli başlı konularıdır.

Bu parçada tanıtılan tür aşağıdakilerden hangisidir?

- A) Destan
- B) Koşuk
- C) Gazel
- D) Türkü

17. Alp Er Tunga öldü mü (Alp Er Tunga öldü mü)
İsiz ajun kaldı mü (Kötü dünya kaldı mı)
Ödlek öçin aldı mu (Felek öcünü aldı mı)
Emdi yürek yırtılır (Şimdi yürek yırtılır)

Bu dörtlük aşağıdaki nazım türlerinin hangisinden alınmıştır?

- A) Sagu
- B) Destan
- C) Koşma
- D) Şarkı

18. İslamiyet'ten önceki dönemde herkes tarafından sevilen kişilerin ölümünden duyulan üzüntüyü ifade eden ağıt, yas şiirlerine verilen ad aşağıdakilerden hangisidir?

- A) Sagu
- B) Sav
- C) Koşuk
- D) Mersiye

19. Aşağıdaki eserlerin hangisinde İslamiyet öncesi Türk edebiyatının en eski örnekleri yazılı hâlde bulunabilir?

- A) Beng ü Bade
- B) Divanü Lügati't Türk
- C) Muhakemetü'l Lügateyn
- D) Durub-ı Emsali Osmaniyeye

20. Aşağıdakilerden hangisi Türk destanlarındaki motiflerden biri değildir?

- A) Ağaç
- B) Işık
- C) Deniz
- D) Bozkurt

1. Alegorik olarak tasarlanan eserde kahramanların her biri bir varlığı simgelemektedir. Eser Kün Toğdı, Ay Toldı, Ögdilmiş ve Odgurmuş'un kendi aralarındaki konuşmalarına dayanır. Eserlerde iyi bir devlet yönetiminin tablosu çizilir. Bu yönüyle eser bir siyasetname özelliği gösterir.

Bu parçada sözü edilen eser aşağıdakilerden hangisidir?

- A) Kutadgu Bilig
- B) Atabetü'l Hakayık
- C) Divanü Lügati't Türk
- D) Divan-ı Hikmet

2. Aşağıdaki cümlelerin hangisinde Atabetü'l Hakayık ile ilgili yanlış bilgi verilmiştir?

- A) Kitapta dörtlük ve beyit bir arada kullanılmıştır.
- B) Karahanlılar döneminin ilk edebi eseridir.
- C) Edip Ahmet Yüekneki tarafından yazılmıştır.
- D) Eser Allah'a, Peygamber'e övgüyle başlar.

3. İslami Dönemin ilk ürünleriyle ilgili aşağıdakilerden hangisi söylenemez?

- A) Arapça, Farsça kelimeler kullanılmaya başlanmıştır.
- B) Bilgilendirme ve öğüt verme amacı taşımaktadır.
- C) Kimin tarafından yazıldığı belli değildir.
- D) Türk edebiyatının önemli eserleri olarak değerlendirilir.

4. Aşağıdaki sanatçı – eser eşleştirmelerinden hangisi yanlıştır?

- A) Yusuf Has Hacıp - Kutadgu Bilig
- B) Kaşgarlı Mahmut – Divanü Lügati't Türk
- C) Mevlana - Mantıku't Tayr
- D) Ahmet Yesevi - Divan-ı Hikmet

5. Saba Mesih-dem olub bahardan
bu gece
Hıtaya benzedi gülşen nigardan
bu gece
Sabuh içmedi gündüz çemende
gül-ruhsar
Bu nerkisun gözü nedür humardan
bu gece

Bu şiirin türü aşağıdakilerin hangisidir?

- A) İlahi
- B) Mesnevi
- C) Destan
- D) Gazel

6. XIII. yüzyılda halk edebiyatı çevresinde anonim eserler de önemli yer tutar. Uzun kahramanlık hikâyeleri diyebileceğimiz bu eserlerde genellikle Türklerin yiğitlikleri ve Hristiyanlarla mücadeleleri anlatılır.

Aşağıdakilerden hangisi bu metinde sözü edilen eserlerden biri değildir?

- A) Danişmendname
- B) Şeyhname
- C) Battalname
- D) Saltukname

7. Dede Korkut Hikâyeleri ile ilgili aşağıdakilerden hangisi söylenemez?

- A) Dresten ve Vatikan'da olmak üzere iki nüshası vardır.
- B) Eserde on iki hikâyeye vardır.
- C) Hikâyelerde tekrarlanan birtakım söz kalıpları vardır.
- D) Tamamı nazım şeklindedir.

8. Aşağıdakilerin hangisi Türk edebiyatının tanınmış mesnevi-lerinden biri değildir?

- A) Harname
- B) Hayriye
- C) Çarhname
- D) Şikâyetname

1. OTURUM

9. Şiirlerinde açık, anlaşılır bir dil kullanan sanatçı XIII. ve XIV. yüzyıllarda yaşamıştır. Başta ilahi olmak üzere farklı türlerde eser vermiştir. Farsçanın yaygın olarak kullanıldığı bu dönemde sade Türkçe ile şiirler söylemesi onu ölümünden sonra da yaşatmış, günümüzde dahi rahatlıkla ve çokça okunmasını sağlamıştır. "Divan" ve "Risaletü'n Nushiyye" adlı eserleri vardır.

Bu parçada tanıtılan sanatçı aşağıdakilerden hangisidir?

- A) Ali Şir Nevai
- B) Hacı Bayramı Veli
- C) Şeyyad Hamza
- D) Yunus Emre

10. Aşağıdakilerden hangisi divan edebiyatının özelliklerinden biri değildir?

- A) Nazım birimi olarak sadece beyit kullanılmıştır.
- B) Ölçü olarak aruz benimsenmiştir.
- C) Mazmun adı verilen kalıplaşmış sözler kullanılmıştır.
- D) Hint – İran söylenceleri, İslam tarihinin önemli olayları şiirlerde işlenmiştir.

11. Aşağıdaki divan edebiyatı sanatçılarından hangisi şiirlerinde tasavvufa yer vermemiştir?

- A) Nedim
- B) Kadı Burhanettin
- C) Şeyhi
- D) Şeyh Galip

12. Aşağıdakilerin hangisi divan edebiyatının süslü nesir sanatçılarından biridir?

- A) Mercimek Ahmet
- B) Nergisi
- C) Naima
- D) Peçevi

13. Aşağıdaki cümlelerin hangisinde gazelle ilgili bilgi yanlıştır?

- A) İlk örneklerini XIII. yüzyılda Hoca Dehhanı yazmıştır.
- B) Kafiye örgüsü aa/bb/cc/dd/ee şeklindedir.
- C) Dizelerinin ortasında iç kafiye bulunan gazelle musammat gazel denir.
- D) Başlangıçta konusu aşk, güzellik ve kadinken sonradan farklı konularda da yazılmıştır.

14. Aşağıdakilerden hangisi divan edebiyatında bentle yazılan nazım şekillerinden biri değildir?

- A) Rubai
- B) Şarkı
- C) Müstezat
- D) Murabba

15. Aşağıdaki seçeneklerin hangisinde bilgi yanlıştır?

- A) Kasideler ya konusuna göre ya da kafiye ve rediflerine göre adlandırılır.
- B) Tevhid, Allah'ın birliğinin anlatıldığı kaside türüdür.
- C) Peygamber efendimizi anlatan kasidelere naat denir.
- D) Hicviye devlet büyüklerini övmek için yazılan kasidelerdir.

16. Dört dizelik divan edebiyatı nazım şeklidir. Fars edebiyatından bize geçmiştir. Birinci, ikinci ve dördüncü dizeler kendi aralarında uyaklı, üçüncü dizesi ise serbesttir. İlk üç dize düşünceyi hazırlar, dördüncü dizede ise asıl mesaj verilir. Şairler genellikle dünya görüşlerini, dinî, tasavvufî ve felsefî görüşlerini, aşk anlayışlarını bu nazım şekliyle kısa ve öz bir şekilde anlatırlar.

Bu parçada anlatılan nazım şekli aşağıdakilerden hangisidir?

- A) Rubai
- B) Murabba
- C) Tuyuğ
- D) Şarkı

17. Aşağıdakilerden hangisi halk şiirinin özelliklerinden biri değildir?

- A) Nazım birimi olarak dörtlük kullanılmıştır.
- B) Hece ölçüsü benimsenmiştir.
- C) Şiirler bir saz eşliğinde ezgiyle söylenmiştir.
- D) Söyleyeni bilinmediğinden hepsi anonimdir.

18. Tarih, coğrafya, biyografi gibi sahalarda kaleme aldığı eserlerinin bir kısmı Türkçe, bir kısmı Arapçadır. Bilim dünyasına ışık tutan sanatçı birçok eser yazmıştır. "Cihannuma, Fezleke, Keşfu'z Zünun" bunlardan bazılarıdır.

Bu parçada tanıtılan sanatçı aşağıdakilerden hangisidir?

- A) Evliya Çelebi
- B) Kâtip Çelebi
- C) Âşık Çelebi
- D) 28 Mehmet Çelebi

19. Aşağıdakilerden hangisi öğretici metinlerden değildir?

- A) Tezkire
- B) Seyahatname
- C) Koşma
- D) İlimi eserler

20. ... Kerem yola revan olup giderken Elmalı Dağı'na geldiler. Kerem, Sofu'ya:

... Bu dağı bilir misin? Buna Elmalı Dağı derler. Eğlen bir türkü söyleyeyim de öyle gidelim:

Aldı Kerem:

Gel gidelim Sofu kardeş
Bugün Aslı'm göç eylemiş
Ben ağlarım sen ağlama
Bugün Aslı'm göç eylemiş

Bu parça aşağıdaki türlerin hangisinden alınmıştır?

- A) Orta oyunu
- B) Seyahatname
- C) Halk hikâyesi
- D) Tezkire

1. OTURUM

(415) TÜRK EDEBİYATI – 5

1. Tanzimat Fermanı'nın diğer adı aşağıdakilerden hangisidir?

- A) Gülhane Hatt-ı Hümayunu
- B) Divanı Hümayun
- C) Islahat Fermanı
- D) Yenileşme Fermanı

2. Aşağıdakilerden hangisi edebiyatın doğrudan yararlandığı bilimlerden biri değildir?

- A) Tarih
- B) Biyoloji
- C) Sosyoloji
- D) Psikoloji

3. Edebî eserlerle ilgili aşağıda verilen bilgilerden hangisi yanlıştır?

- A) Amaç estetik zevk uyandırmaktır.
- B) Yazıldığı dönemden izler taşır.
- C) Gerçekleri olduğu gibi aktarır.
- D) Yazarının hayatından izler taşıyabilir.

4. Aşağıdakilerden hangisi edebiyatın konusu içerisinde yer almaz?

- A) Toplumun yaşam tarzı
- B) Toplumun tarihi
- C) Toplumdaki düşünce akımları
- D) Ahşabın kullanıldığı alanlar

5. Namık Kemal aşağıdaki türlerin hangisinde eser vermemiştir?

- A) Roman
- B) Hikâye
- C) Şiir
- D) Tiyatro

6. İlk yerli roman aşağıdakilerden hangisidir?

- A) İntibah
- B) Araba Sevdası
- C) Taaşşuk-ı Talat ve Fitnat
- D) Mai ve Siyah

7. Aşağıdakilerden hangisi ilk resmi gazetedir?

- A) Takvim-i Vekayi
- B) Ceride-i Havadis
- C) Tercüman-ı Ahvâl
- D) Tasvir-i Efkâr

8. Aşağıdakilerden hangisi Tanzimat Dönemi'nin genel özelliklerinden biri değildir?

- A) Şiirlerde konu bütünlüğü esas alınmıştır.
- B) Batı edebiyatından şiir ve roman çevirileri yapılmıştır.
- C) İlk dönemlerde divan edebiyatı nazım şekilleri kullanılmış ancak şiirin içeriği değiştirilmiştir.
- D) Ağırıklı olarak hece ölçüsü kullanılmıştır.

9. Edebiyatımızda şiir, tiyatro, roman alanlarında eserler verdi. Toplum konularına hiç değinmedi. Doğa güzellikleri, aşk konuları ile günlük hayatta karşılaştığı her tür olayı ele aldı. Edebiyatımıza en önemli katkılarından biri de Batı yanlısı gençleri Servet-i Fünun dergisi etrafında toplaması oldu. Edebiyat kurallarını öğreten "Talim-i Edebiyat" adlı eserini hazırladı.

Bu parçada tanıtılan sanatçı aşağıdakilerden hangisidir?

- A) Recaizade Mahmut Ekrem
- B) Abdülhak Hamit Tarhan
- C) Muallim Naci
- D) Ahmet Mithat Efendi

10. Abdülhak Hamit Tarhan'ın, eşi Fatma Hanım'ın ölümü üzerine yazdığı bir mersiyedir. Şair, ölüm karşısındaki duygu ve düşüncelerini, acılarını, feryatlarını bu şiirde dile getirmiştir. Zaman zaman ölümü, yaşamı sorgulamış; içinde yaşadığı fırtınaları, tezatlarla dolu karmaşık duygularını ortaya koymuştur.

Bu parçada sözü edilen eser aşağıdakilerden hangisidir?

- A) Validem
- B) Ölü
- C) Makber
- D) Sahra

11. Edebiyatımızda kölelik ve insan ticareti hakkında yazılmış eserlerin en ünlüsüdür. Romantizmden, realizme geçişin izleri görülür. Eserin konusu gerçek hayattan alınmıştır. Yazar yaşadığı konakta, roman kahramanı Dilber'e benzeyen pek çok kişiyi yakından tanımıştır. Eserde kölelik konusunun yanında, evlilik işlerinde gelenek ve göreneklere bağlı kalmanın yanlışlıkları üzerinde de durulmuştur.

Bu parçada hakkında bilgi verilen eser aşağıdakilerden hangisidir?

- A) İntibah
- B) Sergüzeşt
- C) Karabibik
- D) Araba Sevdası

12. Tanzimat sanatçılarının etkilediği edebî akımlar aşağıdakilerin hangisinde doğru verilmiştir?

- A) Klasisizm, realizm, sürrealizm
- B) Romantizm, realizm, sembolizm
- C) Realizm, klasisizm, sembolizm
- D) Klasisizm, romantizm, realizm

13. Doğu edebiyatını çok iyi öğrenmiştir. Ahmet Mithat Efendi ile tanıştıktan sonra ve onun yönlendirmesiyle öğrendiği Fransızca ile Batı edebiyatının önemini kavramıştır. Doğu ve Batı kültürünün etkisiyle eski tarzda şiirler yazmış ve bazı Fransız sanatçılarından çeviriler yapmıştır. Hem klasik tarzda hem de yeni anlayışıyla şiirler yazmakla birlikte eskiye daha çok bağlı kalmıştır. Şerare, Füzûzan ve Demdeme eserlerinden bazılarıdır.

Bu parçada hakkında bilgi verilen sanatçı aşağıdakilerden hangisidir?

- A) Muallim Naci
- B) Recaizade Mahmut Ekrem
- C) Abdülhak Hamit Tarhan
- D) Namık Kemal

1. OTURUM

14. Aşağıdaki sanatçı - eser eşleştirmelerinden hangisi yanlıştır?

- A) Namık Kemal - Cezmi
- B) Sami Paşazade Sezai - Karabibik
- C) Şinasi - Şair Evlenmesi
- D) Ziya Paşa - Harabat

15. Tanzimat Fermanı'nın ilanından sonra Osmanlı Devleti'nde birçok alanda yenilik yapılmıştır.

Aşağıdakilerden hangisi bu dönemde yenilik yapılan alanlardan biri değildir?

- A) Askeri
- B) Sanayi
- C) Siyasi
- D) Eğitim

16. Osmanlı Devleti'nde toplumu temsil eden piramitin en üst noktasında aşağıdakilerden hangisi yer alır?

- A) Halk
- B) Nazır
- C) Padişah
- D) İlim adamları

17. Aşağıdakilerden hangisi Tanzimat'ın ilk dönemlerinde çevirisi yapılan romanlardan biri değildir?

- A) Telemak
- B) Sefiller
- C) Suç ve Ceza
- D) Robenson Crusoe

18. I. Hazırlık Dönemi (1839 - 1860)
II. 1. Dönem (1860 - 1876)
III. 2. Dönem (1876 - 1895)
IV. Servetifünun (1896 - 1901)

Yukarıdakilerden hangisi Tanzimat edebiyatının dönemlerinden biri değildir?

- A) I.
- B) II.
- C) III.
- D) IV.

19. Aşağıdakilerden hangisi Tanzimat Edebiyatı I. Dönem sanatçılarındandır?

- A) Ahmet Mithat Efendi
- B) Muallim Naci
- C) Nabizade Nazım
- D) Recaizade Mahmut Ekrem

20. Aşağıdakilerden hangisi Namık Kemal'in eserlerinden biri değildir?

- A) İntibah
- B) Küçük Şeyler
- C) Tahrib-i Harabat
- D) Celaleddin Harzemşah

(416) TÜRK EDEBİYATI – 6

1. Aşağıdakilerden hangisi Fecriati topluluğunun kuruluş bildirisinde yer alan amaçlarından biridir?

- A) Halkın ihtiyacına göre eserler vermek
- B) Türk edebiyatını, diğer edebiyatların etkisinden kurtarmak
- C) "Sanat şahsi ve muhteremdir" ilkesinden hareket etmek
- D) Halk şairlerinin şiirlerinden yararlanmak

2. Aşağıdakilerden hangisi Cenap Şahabettin'in düzyazı türündeki eserlerinden biri değildir?

- A) Körebe
- B) Tamat
- C) Hac Yolunda
- D) Avrupa Mektupları

3. Edebiyatıcedide olarak da bilinen edebî dönem aşağıdakilerden hangisidir?

- A) Tanzimat edebiyatı
- B) Servetifünun edebiyatı
- C) Fecriati edebiyatı
- D) Milli Edebiyat

4. Servet-i Fünun dergisi - - - - tarafından yazılan "Edebiyat ve Hukuk" adlı çevirinin yayımlanmasıyla kapatılmış, böylece Servetifünun topluluğu dağılmıştır.

Bu parçada boş bırakılan yere aşağıdakilerden hangisi getirilmelidir?

- A) Cenap Şahabettin
- B) Tahsin Nahit
- C) Tevfik Fikret
- D) Hüseyin Cahit Yalçın

5. Servetifünun edebiyatının genel özellikleriyle ilgili olarak aşağıdakilerden hangisi söylenbilir?

- A) Şiirde hece ölçüsü kullanılmıştır.
- B) Hikâye ve romanlarda realizm akımının etkisinde kalınmıştır.
- C) Tiyatro çok önemsenmiş, bu türde önemli eserler verilmiştir.
- D) Açık, anlaşılır ve sade bir dil kullanılmıştır.

6. Halit Ziya Uşaklıgil'in romanlarıyla ilgili aşağıdakilerden hangisi söylenemez?

- A) Betimlemelere ve ruhsal çözümlere yer vermiştir.
- B) Romanlarının konusunu kırsal bölge insanından almıştır.
- C) Eserlerini ağır bir dille yazmıştır.
- D) Olayları gerçekçi bir gözle incelemiştir.

7. Aşağıdakilerden hangisi Tevfik Fikret ile Mehmet Akif Ersoy'un ortak özelliklerinden biri değildir?

- A) Aruz ölçüsü kullanmaları
- B) Toplumsal konuları işlemeleri
- C) Realizmden etkilenmeleri
- D) Nazmı nesre yaklaştırmaları

8. Tevfik Fikret'in çocuklar için yazdığı eseri aşağıdakilerden hangisidir?

- A) Rübab-ı Şikeste
- B) Haluk'un Defteri
- C) Tarih-i Kadim
- D) Şermin

9. Aşağıdakilerden hangisi Servetifünun Dönemi sanatçılarından biri değildir?

- A) Recaizade Mahmut Ekrem
- B) Tevfik Fikret
- C) Halit Ziya Uşaklıgil
- D) Mehmet Rauf

1. OTURUM

10. Aşağıdakilerden hangisi Milli Edebiyat Dönemi'nin temsilcilerinden biri değildir?

- A) Namık Kemal
- B) Ömer Seyfettin
- C) Ali Canip Yöntem
- D) Ziya Gökalp

11. Türk şiirinde sade dille yazan ve heceyi ustalıkla kullanan şairlerden biridir. Yahya Kemal Beyatlı'dan etkilenecek ilk şiirlerini aruzla yazdı. Daha sonra hece veznine ve halk diline yöneldi. Deli Ozan takma adıyla şiirler yazdı. "Çoban Çeşmesi, Han Duvarları" önemli eserlerinden bazılarıdır.

Bu parçada tanıtılan sanatçı aşağıdakilerden hangisidir?

- A) Ziya Gökalp
- B) Faruk Nafiz Çamlıbel
- C) Mehmet Emin Yurdakul
- D) Halit Fahri Ozansoy

12. Aşağıdakilerden hangisi Milli Edebiyat Dönemi'ndeki şiir anlayışlarından biri değildir?

- A) Sade dil ve hece ölçüsüyle şiir yazanlar
- B) Divan edebiyatı geleneğini sürdürenler
- C) Saf şiir anlayışını benimseyenler
- D) Halkın yaşayış tarzını ve değerlerini anlatan manzume yazarlar

13. Aşağıdakilerden hangisi Milli Edebiyat Dönemi'nin genel özelliklerinden biri değildir?

- A) Roman ve hikâyelerde olayların geçtiği yer hep İstanbul'dur.
- B) Şiirde halk edebiyatı nazım şekilleri kullanılmıştır.
- C) Milli kaynaklara yönelmiş, halkın sorunları dile getirilmiştir.
- D) Konuşma dilinin yazı dili hâline getirilmesi için çalışılmıştır.

14. Milli Edebiyat Dönemi 1911'de, Selanik'te çıkan - - - - dergisiyle başlamıştır. Bu dönemde - - - - edebiyat tarihi alanında çalışmalar yapmıştır.

Bu parçada boş bırakılan yerlere sırasıyla aşağıdakilerden hangisi getirilmelidir?

- A) Genç Kalemler - Fuat Köprülü
- B) Servet-i Fünun - Muallim Naci
- C) Türk Yurdu - Ziya Gökalp
- D) Yeni Mecmua - Ali Canip Yöntem

15. Yakup Kadri Karaosmanoğlu'nun aşağıdaki eserlerinden hangisi tür yönünden diğerlerinden farklıdır?

- A) Gençlik ve Edebiyat Hatıraları
- B) Anamın Kitabı
- C) Bir Serencam
- D) Zoraki Diplomat

16. Aşağıdaki eser - sanatçı eşleştirmelerinin hangisinde yanlışlık yapılmıştır?

- A) Vurun Kahpeye - Halide Edip Adivar
- B) Yaprak Dökümü - Reşat Nuri Güntekin
- C) Yaban - Yakup Kadri Karaosmanoğlu
- D) Eylül - Ömer Seyfettin

17. Hikâye, roman ve anı türlerinde eser verdi. Bireysel tutkuları, kadının psikolojisini ve duyarlılığını işledi. "Sinekli Bakkal, Ateşten Gömlek" önemli eserlerinden bazılarıdır.

Bu parçada tanıtılan sanatçı aşağıdakilerden hangisidir?

- A) Yakup Kadri Karaosmanoğlu
- B) Reşat Nuri Güntekin
- C) Refik Halit Karay
- D) Halide Edip Adivar

18. Yakup Kadri Karaosmanoğlu'nun ilk romanıdır. Eserde kuşaklar arası çatışma işlenmiştir. Düşünce ve yaşam biçimindeki anlayış farkı bir ailenin dağılmasına sebep olmuştur. Eski devri temsil eden Naim Efendi'nin Batılılaşmayı yanlış anlayan sorumsuz torunlarıyla yaşadığı çatışma ve konaktan ayrılmamak için verdiği mücadele eserin konusunu oluşturmuştur.

Bu parçada özellikleri verilen eser aşağıdakilerden hangisidir?

- A) Nur Baba
- B) Hüküm Gecesi
- C) Kiralık Konak
- D) Panorama

19. Hikâye, seçilmiş olay ve kişiler üzerine kurulur. Olay, kişi, zaman ve mekân ilişkisi okuyucuda gerçeklik duygusu uyandırır. Merak unsuru hikâye boyunca devam eder ve genellikle beklenmedik bir sonla biter. Yazar, rastlantılardan kaçınır. Türk edebiyatında Ömer Seyfettin bu türün öncüsüdür.

Bu parçada özellikleri verilen hikâye türü aşağıdakilerden hangisidir?

- A) Olay hikâyesi
- B) Durum hikâyesi
- C) Modern hikâye
- D) Halk hikâyesi

20. Mehmet Akif Ersoy'la ilgili olarak aşağıdakilerden hangisi söylenemez?

- A) Toplum için sanat anlayışını benimsemiştir.
- B) Şiirlerini "Safahat" adlı kitapta toplamıştır.
- C) Şiirlerini hece ölçüsüyle yazmıştır.
- D) Bazı şiirlerini manzum hikâye tarzında yazmıştır.

1. OTURUM

(417) TÜRK EDEBİYATI – 7

1. Aşağıdaki olaylardan hangisi Türk edebiyatını etkilememiştir?

- A) Harf devrimi
- B) Türk Tarihi Tetkik Cemiyeti'nin kurulması
- C) Kılık kıyafet devrimi
- D) Cumhuriyetin ilan edilmesi

2. Aşağıdakilerden hangisi Beş Hececilerin ortak özelliklerinden biridir?

- A) Şiirde kafiyeden uzak durmaları
- B) Son dönem şiirlerinde aruzu kullanmaları
- C) Nazım birimi olarak beyit kullanmaları
- D) Halk şiiri geleneğinden yararlanmaları

3. İçe dönük, maneviyatçı, bireyci şiirin başarılı örneklerini ortaya koymuştur. Şiirlerinde daima hece ölçüsünü kullanmış, heceye ayrı bir güzellik katmıştır. "Çile" şairi olarak da tanınan sanatçının "Kaldırımlar" şiiri de meşhurdur.

Bu parçada tanıtılan sanatçı aşağıdakilerden hangisidir?

- A) Necip Fazıl Kısakürek
- B) Mehmet Akif Ersoy
- C) Kemalettin Kamu
- D) Behçet Necatigil

4. Aşağıdakilerden hangisi Ahmet Hamdi Tanpınar'ın işlediği temalardan biri değildir?

- A) Ölüm
- B) Kahramanlık
- C) Zaman
- D) Rüya

5. Aşağıdakilerden hangisi Yedi Meşalecilerden değildir?

- A) Ülkü Tamer
- B) Cevdet Kudret
- C) Yaşar Nabi Nayır
- D) Muammer Lütfi

6. Şiirlerini 1941 yılında Melih Cevdet Anday ve Oktay Rifat'la birlikte Garip adlı kitapta yayımladı. Türk şiirinde önemli bir yenilik başlattı.

Bu parçada tanıtılan sanatçı aşağıdakilerden hangisidir?

- A) Attila İlhan
- B) Cahit Külebi
- C) Orhan Veli Kanık
- D) Fazıl Hüsnü Dağlarca

7. 1950'den sonra yeni arayışlara yönelen Cemal Süreya ve arkadaşları yeni bir akım başlattılar. Anlamda kapalılığın, değişik çağrışımlarla imgeci bir şiir anlayışının savunulduğu akım 1960'lı yıllarda da etkisini sürdürdü.

Bu parçada özellikleri verilen şiir anlayışı aşağıdakilerden hangisidir?

- A) Garip hareketi
- B) Serbest nazım ve toplumcu şiir
- C) Yedi Meşaleciler
- D) İkinci Yeniler

8. Cumhuriyet Dönemi'nin en büyük romancılarından olan sanatçı, eserlerinde Türkiye'nin Tanzimat'tan itibaren geçirdiği değişimleri anlattı. "Kiralık Konak, Yaban, Ankara" önemli eserlerinden bazılarıdır.

Bu parçada tanıtılan sanatçı aşağıdakilerden hangisidir?

- A) Reşat Nuri Güntekin
- B) Halide Edip Adıvar
- C) Yakup Kadri Karaosmanoğlu
- D) Refik Halit Karay

9. Aşağıdakilerden hangisi toplumsal gerçekçi yazarlarımızdan biri değildir?

- A) Orhan Kemal
- B) Tarık Buğra
- C) Yaşar Kemal
- D) Kemal Tahir

10. 1920'li ve 1930'lu yıllarda sergilenen oyunlarda toplum sorunları ekonomik yapı bağlamında değerlendirilmiştir. Diğer oyun yazarlarından farklı olarak bu sanatçı, toplumdaki hızlı değişimin ekonomik nedenlerden çok ahlaki sonuçları üzerinde durmuştur. "Tohum" ve "Bir Adam Yaratmak" adlı eserleri bilinen oyunlarından biridir.

Bu parçada tanıtılan sanatçı aşağıdakilerden hangisidir?

- A) Necip Fazıl Kısakürek
- B) Haldun Taner
- C) Muhsin Ertuğrul
- D) Musahipzade Celal

11. Aşağıdakilerden hangisi Orhan Kemal'in eserlerinden biri değildir?

- A) 72. Koşuş
- B) Bekçi Murtaza
- C) Reis Bey
- D) Kardeş Payı

12. Aşağıdakilerin hangisinde sanatçı – eser eşleştirmesinde yanlışlık yapılmıştır?

- A) Refik Erduran – Keşanlı Ali Destanı
- B) Orhan Asena – Hürrem Sultan
- C) Turan Oflazoğlu – Sokrates'in Savunması
- D) Güngör Dilmen – Deli Dumrul

13. 20. yüzyılın son yirmi yılında yazdığı yirmiden fazla oyunuyla seyirciyi, alışkanlıkların engeline takılmadan yeni bir gözle hayata bakmaya, vicdanları doğrulara açmaya, en çok da körelmiş zekâları bilemeye çalıştı. Oyunlarının renkli dünyasında sanatçılar, aydın geçinenler, bilim adamları, garsonlar, yeraltı dünyasının kabadayıları, oyuncular, gezginler, astronotlar ve gezginler yer alır. "Cumhuriyet Kızı, Yangın Yerinde Orkideler, Maskeli Süvari" oyunlarından bazılarıdır.

Bu parçada tanıtılan sanatçı aşağıdakilerden hangisidir?

- A) Murathan Mungan
- B) Mehmet Baydur
- C) Cihan Canova
- D) Behiç Ak

1. OTURUM

14. Aşağıdakilerden hangisi eserlerinde köyü konu edinen sanatçılardan biri değildir?

- A) Fakir Baykurt
- B) Talip Apaydın
- C) Oğuz Atay
- D) Samim Kocagöz

15. Bazı sanatçılar Beş Hececiler grubuna dahil olmadıkları hâlde heceyle yazılan şiire büyük bir aşama kazandırmışlardır.

Aşağıdakilerden hangisi bu sanatçılardan biri değildir?

- A) Ahmet Kuşci Tecer
- B) Orhan Veli Kanık
- C) Necip Fazıl Kısakürek
- D) Ahmet Hamdi Tanpınar

16. Aşağıdakilerin hangisinde bilgi yanlışı vardır?

- A) Önceleri olay hikâyesi yazan Sait Faik Abasıyanık, daha sonra durum hikâyesi yazmıştır.
- B) Halide Edip Adivar roman kahramanlarını hep erkeklerden seçer ve eser sonunda onları ödüllendirir.
- C) Eserlerinde Anadolu kasaba ve şehirlerini fon olarak kullanan Reşat Nuri Güntekin Çalıkuşu romanıyla ünlenmiştir.
- D) Sabahattin Ali, Anadolu köy ve kasaba hayatının acıklı hâllerini gerçekçi ve gözlemci bir şekilde yazdı.

17. Yazarın bir konu üzerinde kesin sonuçlara varmadan kendi kişisel görüş ve düşüncelerini anlattığı yazı türüdür. Her türlü konuda yazılabilir. Hayat, ölüm, aşk, gurbet, sanat vb. konular bu türde işlenebilir. Eskiden bu yazılara kalem tecrübesi adı verilirdi.

Bu parçada sözü edilen yazı türü aşağıdakilerden hangisidir?

- A) Makale
- B) Sohbet
- C) Fıkra
- D) Deneme

18. Aşağıdakilerden hangisi anı türünde bir eser değildir?

- A) Halit Ziya Uşaklıgil – Kırk Yıl
- B) Hüseyin Cahit Yalçın – Edebi Hatıralar
- C) Ömer Seyfettin – Falaka
- D) Ahmet Rasim – Eşkal-i Zaman

19. Gazete ve dergilerin belli sütunlarında yayımlanan, daha çok güncel konuları ele alan yazılardır. Bilimsel gerçekleri ortaya koyma gibi bir iddiası yoktur. Temel amaç okuyucunun dikkatini çekmek ve onu yönlendirmektir. Köşe yazısı olarak da adlandırılan bu yazılar, samimi bir dil ve üslupla yazılır.

Bu parçada sözü edilen yazı türü aşağıdakilerden hangisidir?

- A) Makale
- B) Sohbet
- C) Deneme
- D) Fıkra

20. Aşağıdakilerden hangisi anı ve günlük türlerinin ortak yönlerinden değildir?

- A) Bir kimsenin kendi başından geçen ya da çevresinde gözlemlediklerini anlattığı yazılardır.
- B) Bu yazıların aranan özelliklerinden biri de içtenlik ve gerçekçiliktir.
- C) Yaşanan olaylar vakit geçirilmeden günü gününe yazılmalıdır.
- D) Yazarıyla ilgili okuyucuya çeşitli bilgiler verir.

(431) KİMYA – 1

1. "Aristo, bütün maddelerin ateş, toprak, - - - - , su olmak üzere dört elementten oluştuğu düşüncesini ortaya atmıştır."

Buna göre cümledeki boşluğa (- - - -) aşağıdakilerden hangisi yazılmalıdır?

- A) hava
- B) cam
- C) kum
- D) tuz

2. I. Simya, teorik temelleri olmayan çalışmalar içerir.
II. Kimya, maddeyi inceleyen bilim dalıdır.
III. Proton, simyacılar tarafından keşfedilmiştir.

Verilen açıklamalardan hangileri doğrudur?

- A) Yalnız II
- B) Yalnız III
- C) I ve II.
- D) I, II ve III.

3. Canlıların yapısında yer alan kimyasal maddeleri ve yaşamları boyunca sürüp giden kimyasal süreçleri inceleyen kimyanın alt bilim dalı aşağıdakilerden hangisidir?

- A) Fizikokimya
- B) Organik kimya
- C) Analitik kimya
- D) Biyokimya

4.

	Element	Sembol
I.	Potasyum	P
II.	Nikel	Ni
III.	Kalsiyum	K
IV.	Helyum	H

Tabloda verilen elementlerden hangisinin sembolü doğru gösterilmiştir?

- A) I.
- B) II.
- C) III.
- D) IV.

5. Al^{3+} katyonu ile O^{2-} anyonu arasında oluşan iyonik bağlı bileşiğin formülü aşağıdakilerden hangisidir?

- A) Al_2O_3
- B) AlO
- C) Al_3O_2
- D) AlO_3

1. OTURUM

6. Aşağıdaki tabloda bazı bileşiklerin formülleri ve adları verilmiştir.

	Bileşik formülü	Adı
I.	SF ₆	Kükürt hekzaflorür
II.	NCI ₃	Azot triklorür
III.	CO	Karbon dioksit

Buna göre hangi bileşiğin adı yanlış yazılmıştır?

- A) I. B) III.
C) I ve II. D) I ve III.


7. 1 tane Al(OH)₃ bileşiğinde toplam kaç tane atom bulunur?

- A) 3 B) 5 C) 6 D) 7

8. HCl bileşiği ile hazırlanan sulu çözeltinin geleneksel adı aşağıdakilerden hangisidir?

- A) Kezzap B) Yemek tuzu
C) Tuz ruhu D) Zaç yağı

9. Bir kimyasal maddenin ambalaj etiketinde aşağıdaki sembol bulunmaktadır.



Bu sembolün anlamı aşağıdakilerin hangisinde doğru verilmiştir?

- A) Zararlı B) Radyoaktif
C) Aşındırıcı D) Yanıcı

10. I. H₂O
II. Cl₂
III. Mg

Yukarıdaki maddelerden hangileri elementtir?

- A) Yalnız II B) Yalnız III
C) I ve II. D) II ve III.

11. I. İyi havalandırılan ortamlarda çalışmalıdır.
II. Kimyasal maddelerin yüz, göz ve cilde temas etmemesine dikkat edilmelidir.
III. Önlük, gözlük ve eldiven kullanılmalıdır.

Yukarıdakilerden hangileri laboratuvarında çalışan bir kişinin alması gereken önlemler arasında yer alır?

- A) Yalnız I B) I ve II.
C) II ve III. D) I, II ve III.

12. 14 gram demir (Fe) ile bir miktar kükürt (S) uygun koşullarda birleşerek 22 gram demir (II) sülfür (FeS) bileşiğini oluşturuyor.

Buna göre 22 gram FeS bileşiğinde bulunan kükürt (S) kütlesi aşağıdakilerin hangisinde doğru verilmiştir?

- A) 8 B) 14 C) 16 D) 18

13. 36 gram su (H₂O) bileşiğinde 32 gram oksijen (O) ve 4 gram hidrojen (H) bulunmaktadır.

Buna göre H₂O bileşiğindeki kütlece $\frac{H}{O}$ oranı aşağıdakilerden hangisidir?

- A) $\frac{1}{8}$ B) $\frac{1}{4}$ C) 4 D) 8

14. Karbon (C) ve Oksijen (O) elementlerinden oluşan bileşiklerdeki elementlerin kütleleri aşağıdaki tabloda verilmiştir.

	1. bileşik	2. bileşik
C kütlesi	12	12
O kütlesi	16	32

Buna göre bu iki bileşikteki oksijen elementlerinin katlı oranı aşağıdakilerden hangisidir?

- A) $\frac{3}{2}$ B) $\frac{3}{4}$
C) $\frac{1}{2}$ D) $\frac{3}{8}$

15. Aşağıda verilen atom altı taneciklerden hangisi negatif (-) yüklüdür?

- A) Çekirdek B) Proton
C) Nötron D) Elektron

16. ¹⁹F atomu ile ilgili aşağıdakilerden hangisi yanlıştır?

- A) Proton sayısı 9'dur.
B) Atom numarası 10'dur.
C) Kütle numarası 19'dur.
D) Nötron sayısı 10'dur.

17. ¹⁰B ve ¹¹B atomları ile ilgili aşağıdakilerden hangisi doğrudur?

- A) Kütle numaraları aynıdır.
B) Nötron sayıları aynıdır.
C) İzotop atomlardır.
D) Elektron sayıları farklıdır.

18. • Elektronlar çekirdek etrafında çember çizerek dolanır.
• Bu çemberlere yörünge ya da enerji katmanı denir.
• Katmanlar içten dışa doğru 1, 2, 3, ..., n şeklinde veya K, L, M, N, ... harfleri ile gösterilir.

Verilen bilgiler aşağıdaki atom modellerinden hangisine aittir?

- A) Dalton B) Thomson
C) Rutherford D) Bohr

19. I. ²He
II. ¹¹Na
III. ¹⁸Ar
IV. ¹⁹K

Yukarıda verilen elementlerden hangi ikisi aynı periyotta yer alır?

- A) I ve II. B) II ve III.
C) III ve IV. D) I ve III.

1. OTURUM

20. I. $_{11}\text{Na}$
II. $_{12}\text{Mg}$
III. $_{19}\text{K}$

Yukarıda verilen atomların atom yarıçaplarının karşılaştırılması aşağıdakilerin hangisinde doğru gösterilmiştir?

- A) III > I > II
B) III > II > I
C) I > II > III
D) II > III > I

(432) KİMYA – 2

1. • SO_3 • Mg^{2+}
• OH^- • CO
• N • Cu

Bazı kimyasal türlerin sembol ve formülleri yukarıda verilmiştir.

Buna göre bu türlerin atom, molekül ve iyon olarak sınıflandırılması aşağıdakilerin hangisinde doğru verilmiştir?

Atom	Molekül	İyon
A) OH^- , Mg^{2+}	SO_3 , CO	Cu , N
B) Cu , N	SO_3 , CO	OH^- , Mg^{2+}
C) SO_3 , CO	OH^- , Mg^{2+}	Cu , N
D) SO_3 , CO	Cu , N	OH^- , Mg^{2+}

2. Aşağıdakilerin hangisi kimyasal türler arası güçlü etkileşimlerden biri değildir?

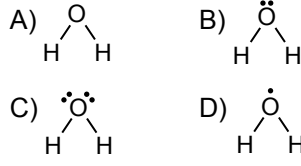
- A) İyonik bağ
B) Kovalent bağ
C) London kuvvetleri
D) Metalik bağ

3. I. $_{7}\text{N} - _{7}\text{N}$
II. $_{1}\text{H} - _{8}\text{O}$
III. $_{11}\text{Na} - _{17}\text{Cl}$

Yukarıda verilen atom çiftlerinden hangileri arasında kovalent bağ oluşur?

- A) Yalnız I
B) I ve II.
C) I ve III.
D) II ve III.

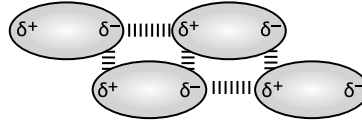
4. H_2O molekülünün Lewis formülü aşağıdakilerin hangisinde doğru gösterilmiştir? ($_{1}\text{H}$, $_{8}\text{O}$)



5. Aşağıdaki elementlerin hangisinin metalik bağ oluşturması beklenir?

- A) $_{7}\text{N}$ B) $_{12}\text{Mg}$
C) $_{17}\text{Cl}$ D) $_{18}\text{Ar}$

6. HCl molekülleri arasındaki çekim kuvvetlerine ilişkin sembolik gösterim aşağıdaki gibidir.



Buna göre HCl molekülleri arasındaki şekilde gösterilen baskın etkileşim türü aşağıdakilerden hangisidir? ($_{1}\text{H}$, $_{17}\text{Cl}$)

- A) Dipol - dipol etkileşimi
B) London kuvveti
C) Hidrojen bağı
D) Metalik bağ

7. Aşağıdakilerin hangisinin kendi molekülleri arasında hidrojen bağı bulunmaz?

- A) HF B) NH_3
C) H_2O D) CH_4

8. • Kağıdın yırtılması
• Camın kırılması
• Şekerin suda çözünmesi
• Kömürün yanması

Yukarıda verilen olaylardan kaç tanesi fiziksel değişimdir?

- A) 1 B) 2 C) 3 D) 4

9. Aşağıdaki tepkimelerden hangisi denkleştirilmemiştir?

- A) $\text{H}_2 + \text{Cl}_2 \rightarrow 2\text{HCl}$
B) $4\text{Fe} + 3\text{O}_2 \rightarrow 2\text{Fe}_2\text{O}_3$
C) $\text{H}_3\text{PO}_4 + 3\text{KOH} \rightarrow \text{K}_3\text{PO}_4 + 3\text{H}_2\text{O}$
D) $\text{N}_2 + \text{H}_2 \rightarrow \text{NH}_3$

10. Aşağıdaki tepkimelerden hangisi oluşum (sentez) tepkimesidir?

- A) $\text{H}_2 + \text{Br}_2 \rightarrow 2\text{HBr}$
B) $2\text{HNO}_3 + \text{Ba}(\text{OH})_2 \rightarrow \text{Ba}(\text{NO}_3)_2 + 2\text{H}_2\text{O}$
C) $\text{CH}_4 + 2\text{O}_2 \rightarrow \text{CO}_2 + 2\text{H}_2\text{O}$
D) $\text{AgNO}_3 + \text{HCl} \rightarrow \text{AgCl} + \text{HNO}_3$

11. Bir gazın kapalı bir kaptaki yapmış olduğu basınç 380 mmHg olarak ölçülmüştür.

Buna göre bu gazın basıncı kaç atm'dir?

- A) 0,5 B) 5
C) 38 D) 380

12. • $127^\circ\text{C} = 400\text{K}$
• $233\text{K} = -40^\circ\text{C}$
• $600\text{K} = 327^\circ\text{C}$
• $-23^\circ\text{C} = 250\text{K}$

Yukarıda verilen sıcaklık dönüşümlerinden kaç tanesi doğrudur?

- A) 1 B) 2 C) 3 D) 4

13. 3,2 gram CH_4 gazı kaç moldür? ($\text{H} = 1\text{ g/mol}$, $\text{C} = 12\text{ g/mol}$)

- A) 0,2 B) 0,5
C) 2 D) 5

14. 2 mol CO_2 gazında bulunan molekül sayısı aşağıdakilerin hangisinde doğru gösterilmiştir? (Avogadro sayısı = $6,02 \cdot 10^{23}$)

- A) $6,02 \cdot 10^{23}$
B) $12,04 \cdot 10^{23}$
C) $18,06 \cdot 10^{23}$
D) $36,12 \cdot 10^{23}$

1. OTURUM

15. Gazlarla ilgili aşağıdaki açıklamalardan hangisi yanlıştır?

- A) Sabit hacimde belirli bir miktardaki gazın basıncı, mutlak sıcaklığı ile doğru orantılı olarak değişir.
- B) Sabit basınçta belirli bir miktardaki gazın hacmi, mutlak sıcaklığı ile doğru orantılı olarak değişir.
- C) Sabit sıcaklıktaki belirli bir miktardaki gazın basıncı, hacmi ile doğru orantılı olarak değişir.
- D) Sabit sıcaklıktaki belirli bir miktardaki gazın basıncı artarsa ideallikten uzaklaşır.

16. 27°C 'ta sabit hacimli kapalı bir kapta bulunan bir miktar gazın basıncı 0,2 atm'dir.

Bu gazın sıcaklığı kaç °C'a çıkarılırsa basıncı 0,4 atm olur?

- A) 127
- B) 227
- C) 300
- D) 327

17. - - - - küçük olan sıvılar daha hızlı akar.

Yukarıdaki cümlede boş bırakılan (- - - -) yere aşağıdakilerden hangisi getirilmelidir?

- A) Yüzey gerilimi
- B) Viskozitesi
- C) Adhezyon kuvvetleri
- D) Sıcaklığı

18. Aşağıdakilerden hangisi amorf bir katıdır?

- A) Plastik
- B) NaCl (sodyum klorür)
- C) I_{2(k)} (iyot)
- D) C (grafit)

19. Saf bir maddenin gaz halden sıvı hale geçmesi olayına ne ad verilir?

- A) Kırışılma
- B) Süblimleşme
- C) Yoğuşma
- D) Donma

20. Aşağıdakilerden hangisi sıvının denge buhar basıncının bağlı olduğu faktörlerden biridir?

- A) Sıvı miktarı
- B) Sıvının bulunduğu kabın şekli
- C) Sıvının yüzey alanı
- D) Sıcaklık

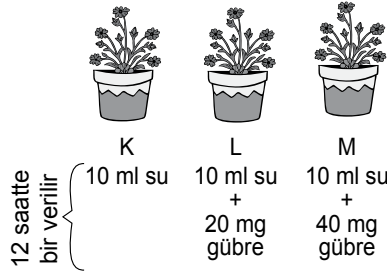
(441) BİYOLOJİ – 1

1. I. Hipotez tekrar gözden geçirilir ve gerekli ise hipotez değiştirilir.
II. Deney sonuçları raporlanarak bilim çevresine duyurulur.
III. Yeni gözlem, deney veya araştırmalar yapılır.

Verilerini analiz eden bilim insanı, verilerin hipotezi ile çeliştiği çıkarımına ulaşıyorsa yukarıdakilerden hangilerini yapması gerekir?

- A) Yalnız I
- B) I ve II.
- C) II ve III.
- D) I, II ve III.

2.



“Gübre kullanıldığında bitkiler daha fazla büyümektedir” hipotezini test etmek isteyen bilim insanı yukarıdaki özdeş düzenekler ile kontrollü deneyi hazırlıyor. 24 saatte bir büyüme miktarını ölçüyor.

Bu kontrollü deneyin bağımlı değişkeni hangisidir?

- A) Su miktarı
- B) Toprak çeşidi
- C) Gübre miktarındaki değişimler
- D) Bitkideki büyüme ölçümleri

3. Aşağıdakilerden hangisi organik besin monomerlerinin parçalanması ile bu besinlerde depo edilmiş olan kimyasal bağ enerjisinin açığa çıkarılması sürecidir?

- A) Kemosentez
- B) Fotosentez
- C) Solunum
- D) Terleme

4. I. Fotosentez
II. Solunum
III. Beslenme

Yukarıdakilerden hangilerinde ATP sentezi gerçekleşir?

- A) Yalnız I
- B) I ve II.
- C) II ve III.
- D) I, II ve III.

5. I. DNA
II. RNA
III. ATP

Yukarıda verilenlerin hangilerinin yapısındaki şeker 5 C'lu riboz şekeridir?

- A) Yalnız I
- B) I ve II.
- C) II ve III.
- D) I, II ve III.

6. Aşağıdaki polisakkaritlerden hangisi suda çözünür?

- A) Nişasta
- B) Glikojen
- C) Selüloz
- D) Kitin

7. • Fazla alınması damar tıkanıklığı ve damar sertliğine neden olur.
• Bitkisel dokularda bulunmaz.
• Hücre zarının yapısına katılarak madde geçirgenliğini artırır.

Yukarıda özellikleri verilen yağ hangisidir?

- A) Omega 6
- B) Kolesterol
- C) Zeytin yağı
- D) Ayçiçek yağı

8. Amino asitler ile ilgili aşağıdakilerden hangisi yanlıştır?

- A) İnsanların üretemediği 8 çeşit amino asite, temel aminoasit denir.
- B) Bütün amino asitler bitkiler tarafından sentezlenebilir.
- C) Bilinen 20 çeşit amino asitin hiçbiri insan hücrelerince üretilmez.
- D) Amino asit çeşitliliği yapısında ki radikal grup değişkenliği ile oluşur.

9. Isıtma, yüksek basınç ve tuz derişimi gibi çevresel faktörler etkisi ile proteinlerin yapısının bozulmasına ne ad verilir?

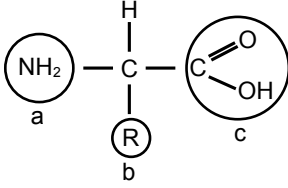
- A) Hidroliz
- B) Dehidrasyon
- C) Sentez
- D) Denatürasyon

1. OTURUM

10. Aşağıdakilerden hangisi A vitamini özelliği değildir?

- A) Görme pigmentlerinin yapısına katılır.
- B) İnsanların kalın bağırsağındaki bakteriler tarafından da sentezlenir.
- C) Eksikliğinde gece körlüğü, kalp ve böbrek rahatsızlıkları görülür.
- D) Besinlerden provitamin olarak vücuda alındıktan sonra karaciğerde A vitaminiye dönüştürülür.

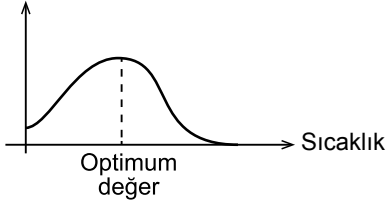
11. Aşağıda bir amino asidin şekli gösterilmiştir:



Buna göre a, b ve c ile ilgili hangisi doğru olur?

	Amino grubu	Radikal grup	Karboksil grubu
A)	a	b	c
B)	a	c	b
C)	c	b	a
D)	c	a	b

12. Reaksiyon hızı



Reaksiyon hızına sıcaklığın etkisiyle ilgili verilen grafik incelendiğinde,

- I. Düşük sıcaklık dereceleri enzimin etkinliğini azaltır.
- II. Yüksek sıcaklıkta enzimin yapısı bozulduğundan görev yapamaz.
- III. Enzimin en iyi çalıştığı değer, optimum değerdir.

ifadelerinden hangileri doğrudur?

- A) Yalnız II
- B) I ve II.
- C) I ve III.
- D) I, II ve III.

13. DNA'nın görevleri ve yapısıyla ilgili olarak aşağıdakilerden hangisi yanlış bir açıklamadır?

- A) Protein sentezini kontrol ederek hücredeki metabolik olayları yönetir.
- B) Hücre bölünmesi sırasında kendini eşleyerek kalıtsal özelliklerin aktarımını sağlar.
- C) Baz, şeker ve fosfata kadar parçalanması için gerekli su miktarı n-2'dir.
- D) Sentezlenirken bir pürin bazının karşısına daima bir pirimidin bazı gelir.

14. Bir hücrede enzim sentezi yapılırken aşağıdakilerden hangisinin miktarında artış olur?

- A) DNA
- B) Su
- C) Amino asit
- D) ATP

15. I. Robert Brown
II. T. Schwann
III. R. Virchow

Yukarıda verilen bilim insanlarından hangilerinin hücreyle ilgili çalışması olmuştur?

- A) Yalnız I
- B) Yalnız II
- C) Yalnız III
- D) I, II ve III.

16. Aşağıda verilen ortamların hangisine bırakılan enzim normal bir şekilde çalışarak reaksiyonu gerçekleştirir?

- A) % 30 suyun olduğu 35 °C'lik ortam
- B) % 5 suyun olduğu 35 °C'lik ortam
- C) % 50 suyun olduğu 50 °C'lik ortam
- D) % 10 suyun olduğu 70 °C'lik ortam

Özellik	DNA	RNA
I. Moleküler oluşuran zincir sayısı	İki	Bir
II. Moleküle özel organik baz	Sitozin	Urasil
III. Moleküler eşleşme özelliği	Var	Var

DNA ve RNA moleküllerine ait bazı özelliklerin karşılaştırıldığı tablo incelendiğinde hangi özelliklerde yanlışlık yapıldığı söylenir?

- A) Yalnız II
- B) I ve III.
- C) II ve III.
- D) I, II ve III.

18. Aşağıda verilen organellerden hangisi zar yapısı bakımından diğerlerinden ayrılır?

- A) Golgi
- B) Ribozom
- C) Lizozom
- D) Endoplazmik retikulum

19. Prokaryot ve ökaryot hücre tipinde ortak olan özelliklere aşağıdakilerden hangisi dahil edilmez?

- A) Genetik bilginin DNA aracılığıyla kodlanması ve aktarılması
- B) Glikoliz olayının görülmesi
- C) Proteazomlara sahip olunması
- D) Transkripsiyonun çekirdekte gerçekleşmesi

20. Aşağıda verilen moleküllerden hangisi hücre zarının fosfolipit tabakasından doğrudan geçemez?

- A) Oksijen
- B) Karbondioksit
- C) Aminoasit
- D) Etanol

1. OTURUM

1. I. Yarasanın kanadı
II. Kelebeğin kanadı
III. Balinanın yüzgeci
IV. İnsanın kolu
- Yukarıdaki yapılardan hangileri birbirleriyle homolog organdır?**
- A) I ve II. B) I, II ve III.
C) I, II ve IV. D) I, III ve IV.
2. Aynı şubeye ait olan iki canlının, aşağıdaki sınıflandırma basamaklarından hangisi kesinlikle aynıdır?
- A) Aile B) Alem
C) Sınıf D) Takım
3. Aşağıdaki canlı alemlerinden hangisi Eukarya (ökaryotlar) Domain (domein) içerisinde değildir?
- A) Arkeler B) Protistler
C) Bitkiler D) Mantarlar
4. Bozulan bir konservenin, üst bölümünde bakterilerin çok sayıda bulunduğu fakat konservenin dip kısımlarında bakteri bulunmadığı tespit edilmiştir.
- Bu bakteriler oksijen kullanma durumlarına göre aşağıdakilerden hangisi olamaz?**
- A) Zorunlu anaerob
B) Zorunlu aerob
C) Geçici aerob
D) Geçici anaerob
5. Genellikle oksijence fakir olan bataklıklarda, pis sularda, çöplüklerde, çürümekte olan maddeler ile beslenen ve pis suların arıtımında kullanılan arkeler aşağıdakilerden hangisidir?
- A) Soğuk seven arkeler
B) Aşırı tuzcullar
C) Aşırı termofiller
D) Metanojenik arkeler

6. Aşağıdaki canlılardan hangisi protistaların kamçılılar grubundadır?
- A) Amip B) Paramesyum
C) Öglena D) Plazmodyum
7. Protista grubuna ait canlıların oluşturduğu kolonilere aşağıdakilerden hangisi örnek verilmez?
- A) Volvoks B) Öglena
C) Pandorina D) Eudorina
8. Oluşturdukları yalancı ayaklarını besin alımında ve aktif hareket etmede kullanan protista canlılarına aşağıda verilenlerden hangisi örnek gösterilmez?
- A) Radiolaria B) Paramesyum
C) Foraminifera D) Amip
9. Mantarlar aleminin üyelerinde görülen özellikler ile ilgili aşağıda verilenlerden hangisi yanlış bir açıklamadır?
- A) Miselyumları ile hem ortama tutunur hem de beslenirler.
B) Çok hücreli olanlarında hif adı verilen iplikli yapılar bulunur.
C) Genellikle eşeyli ve eşeysiz evrenin birbirini takip ettiği üreme şekline sahiptir.
D) Fotosentez koşulları oluştuğunda ototrof, oluşmadığında heterotrof beslenir.
10. • İletim demetlerinin gövdedeki dizilişi düzenlidir.
• Enine kalınlaşmayı sağlayan kambiyum dokusu bulunur.
• Kökleri kazık kök şeklindedir.
- Verilen özelliklere sahip bitkilere aşağıdakilerden hangisi örnek gösterilmez?**
- A) Lale B) Badem
C) Bakla D) Domates

11. Omurgasız hayvanların eklem bacaklı grubunun içerisinde değerlendirilen böceklerle ilgili olarak,
- I. Vücutları baş, gövde ve karın olmak üzere üç bölümden oluşur.
II. İki çift ayak, üç çift kanat taşırlar.
III. Trake solunumu yaparlar.
- verilenlerden hangileri doğrudur?**
- A) Yalnız I B) I ve II.
C) I ve III. D) II ve III.
12. Aşağıda verilen omurgalı hayvan gruplarından hangisi soğukkanlı olup kış uykusuna yatar?
- A) Penguen B) Ayı
C) Kemikli balık D) Kurbağa
13. Memeli canlılarla ilgili,
- I. Olgun alyuvarları çekirdeksizdir.
II. Akciğerlerinde alveol vardır.
III. Yavrularını doğurur ve sütle beslerler.
- Özelliklerinden hangileri omurgalı hayvanların diğer sınıflarında görülmez?**
- A) I ve II. B) I ve III.
C) II ve III. D) I, II ve III.
14. Aşağıda verilen hayvanlardan hangisi omurgasız hayvanlar şubesine ait değildir?
- A) Solucanlar
B) Sürüngenler
C) Derisidikenliler
D) Eklem bacaklılar

1. OTURUM

15. Halkalı solucanlar için,

- Sindirim kanalı ağız ve anüs olmak üzere iki açıklık bulunur.
- Sinir sistemleri ve duyu organları yoktur.
- Toprağın havalanmasında ve su geçirgenliğinin artmasında etkilidir.

Verilenlerden hangileri doğrudur?

- A) Yalnız III B) I ve III.
C) II ve III. D) I, II ve III.

16. Omurgalı hayvanların kuşlar sınıfı canlıları için aşağıda verilen özelliklerden hangisi yanlış bir açıklamadır?

- A) Vücutları keratinden oluşmuş tüylerle örtülüdür.
B) Kalpleri üç odacıklıdır.
C) Ağızlarında diş yoktur.
D) Büyük kemiklerinin içi boştur.

17. Aşağıda verilenlerden hangisi kirletici gazlardan biri değildir?

- A) Kükürt dioksit
B) Karbon monoksit
C) Karbon dioksit
D) Azot dioksit

18. I. Yapay gübreleme yapılması II. Hayvan atıklarının kullanılması III. Tarımsal mücadele ilaçlarının kullanılması

Verilenlerden tarla verimini artırmak için yapılan uygulamalardan olup su kirliliğine neden olanların tamamı hangisinde yer almaktadır?

- A) Yalnız I B) I ve II.
C) II ve III. D) I, II ve III.

19. Radyasyonun hücre üzerindeki etkisi için aşağıdakilerden hangisi yanlış bir açıklamadır?

- A) Radyoaktif maddeler DNA üzerinde kırılmalara neden olabilir.
B) İyonlaşma sonucu hücrede toksin maddeler üreyebilir.
C) Radyasyon sonrası yanlış şifre bilgiler içeren kromozomlar oluşabilir.
D) Radyoaktif maddeler DNA onarımını kolaylaştırır.

20. Ormanda yaban hayatı habitatlarının muhafaza edilmesi için,

- Hayvanların barınması için elverişli olmayan ortamları düzenlemek.
- Avcı türleri ortamdaki uzaklaştırmak.
- En dar alanda en fazla sayıda türün ihtiyacını karşılayabilmek.

Verilenlerden hangileri yapılmamalıdır?

- A) Yalnız I B) Yalnız II
C) I ve III. D) II ve III.

(452) Ç. TÜRK ve DÜNYA TAR.– 2

1. Nükleer, biyolojik ve kimyasal silahlar dışındaki her türlü klasik silahlara "Konvansiyonel Silahlar" denir.

Buna göre;

- Bakteriyolojik silahlar
- Atom bombası
- Tank
- Ağır makineli tüfek

gibi silahlardan hangileri konvansiyonel silahlar grubundan değildir?

- A) Yalnız I B) I ve II.
C) II ve III. D) I, III ve IV.

2. Keşmir Bölgesi'nin, Pakistan ile Hindistan arasında paylaşılmasının en önemli nedeni, aşağıdakilerden hangisidir?

- A) Çin'in nüfuzu altında bulunması
B) Hinduizm'in doğduğu topraklar olması
C) Zengin yer altı kaynaklarına sahip olması
D) Hint Okyanusu'na açılan liman kenti olması

3. Bağlantısızlık hareketinin 1961 yılındaki ilk teşkilatlı toplantısı, aşağıdaki şehirlerin hangisinde yapılmıştır?

- A) İstanbul B) Roma
C) Paris D) Belgrad

4. Aşağıdaki olaylardan hangisi diğerlerinden daha önce gerçekleşmiştir?

- A) İsrail Devleti'nin kurulması
B) Vietnam Savaşı'nın başlaması
C) İran – Irak Savaşı'nın son bulması
D) SSCB'nin Afganistan'ı işgal etmesi

5. Aşağıdakilerden hangisi, Yumuşama Dönemi'nin başlarında ABD ile SSCB arasında devam eden uzay yarışına daha sonra katılan devletlerden biri değildir?

- A) Çin B) Japonya
C) Fransa D) Çekoslovakya

6. Aşağıdakilerden hangisi, Nisan 1973'te Adalet Partisi (AP) ile Cumhuriyet Halk Partisi (CHP)'nin desteğini alarak Türkiye Cumhuriyeti Devleti'nin 6. cumhurbaşkanı olarak seçilmiştir?

- A) Cemal Gürsel
B) Cevdet Sunay
C) Fahri Korutürk
D) Süleyman Demirel

1. OTURUM

7. Mısır'ın, aşağıdakilerden hangisini millileştirmesi, 1956 Mısır - İsrail Savaşı'nın ana nedenini oluşturur?
- A) Golan tepelerini
B) Sina Yarımadası'nı
C) Süveyş Kanalı'nı
D) Akabe Körfezi'ni
8. Önemli bir su yolu olan Şattülrap, aşağıdaki hangi savaşın çıkış nedenlerinin ana sebebidir?
- A) Altı Gün Savaşı'nın
B) İran - Irak Savaşı'nın
C) Yom Kippur Savaşı'nın
D) Birinci Körfez Savaşı'nın
9. Devekuşu Kabare Tiyatrosu, aşağıda birlikte verilen sanatçılardan hangileri tarafından kurulmuştur?
- A) Zeki Alasya - Metin Akpınar
B) Kemal Sunal - Şener Şen
C) Ferdi Tayfur - Ali Sunal
D) Münir Özkul - Adile Naşit
10. "12 Eylül Dönemi" olarak Türk siyasi tarihine geçen zaman diliminde, aşağıdaki anayasalardan hangisi yürürlükten kaldırılmıştır?
- A) 1982 B) 1961
C) 1924 D) 1921
11. Yugoslavya'dan ilk kopan devlet, aşağıdakilerden hangisidir?
- A) Bosna - Hersek
B) Hırvatistan
C) Makedonya
D) Slovenya
12. Nahcivan Özerk Cumhuriyeti'nin aşağıdaki devletlerden hangisiyle kara sınırı yoktur?
- A) Azerbaycan
B) Ermenistan
C) Türkiye
D) İran
13. Sovyetler Birliği Komünist Partisi Genel Sekreteri Mihail Gorbaçov'un;
- "I - Perestroyka" ve "II - Glasnost" adını verdiği reform çalışmalarının anlamı, aşağıdakilerin hangisinde doğru verilmiştir?
- | I | II |
|----------------------|-------------------|
| A) İhtilal | Proletarya |
| B) Açıklık | Yeniden yapılanma |
| C) Yeniden yapılanma | Açıklık |
| D) Süper güç | Diktatör |
14. Orhan Pamuk, aşağıdaki ödüllerden hangisini almıştır?
- A) OSCAR
B) Nobel Kimya Ödülü
C) Nobel Edebiyat Ödülü
D) Altın Palmiye Sinema Ödülü
15. Kırım Özerk Cumhuriyeti aşağıdaki devletlerden hangisine bağlıdır?
- A) Azerbaycan B) Moldova
C) Gürcistan D) Ukrayna
16. Aşağıdakilerden hangisi Yugoslavya Sosyalist Federal Cumhuriyeti'nin dağılması sonucunda ortaya çıkan devletlerden biri değildir?
- A) Slovenya B) Makedonya
C) Arnavutluk D) Hırvatistan
17. Ürdün, Suriye ve İsrail arasında hangi nehrin suyunun kullanımı konusunda sorun yaşanmaktadır?
- A) Dicle B) Şeria
C) Nil D) Asi
18. Mavi Akım Projesi ile Samsun'a ulaştırılan doğal gaz hangi ülkeden alınmaktadır?
- A) Rusya
B) Azerbaycan
C) İran
D) Türkmenistan
19. Aşağıdakilerden hangisi Türkiye'nin barış operasyonlarına katıldığı yerlerden biri değildir?
- A) Somali B) Arnavutluk
C) Afganistan D) Pakistan
20. Süleyman Demirel'den önceki cumhurbaşkanımız aşağıdakilerden hangisidir?
- A) Abdullah Gül
B) Turgut Özal
C) Kenan Evren
D) Ahmet Necdet Sezer

(465) TEMEL DİNİ BİL. - 1

1. Aşağıdakilerden hangisi ilahi dinlerin ortak özelliklerinden biri değildir?
- A) Vahye dayalıdır.
B) Belirli bir kabileye aittir.
C) Ahirete iman ortak inançlarından biridir.
D) Peygambere itaat dinin esaslarından biridir.
2. Aşağıdakilerden hangisi mono-teist anlayışın özelliklerinden biridir?
- A) Tanrı evreni idare etmektedir.
B) Hakikatlere ulaşmada din yetersizdir.
C) Tanrının varlığı ya da yokluğu bilinemez.
D) Evrenin idaresinde her tanrının farklı bir görevi vardır.
3. Allah'tan başka hiçbir varlıkta bulunmayan sıfatlara - - - -, diğer varlıklarda kısmen bulunan sıfatlara da - - - - sıfatlar adı verilir.
- Bu cümlede boş bırakılan yerlere anlama uygun olarak aşağıdaki kelimelerden hangileri getirilmelidir?**
- A) semi - basar
B) zati - subuti
C) kıdem - beka
D) ilahi - insani

1. OTURUM

4. “Eğer yerde ve gökte Allah’tan başka tanrılar bulunsaydı yer ve gök, kesinlikle bozulup gitmişti...”
(Enbiyâ suresi, 22. ayet)

Verilen ayetten aşağıdaki sonuçlardan hangisi çıkarılamaz?

- A) Evren bir gün yok olacaktır.
B) Evreni idare eden Allah’tır.
C) Allah’ın eşi ve dengi yoktur.
D) Evrende bir düzen vardır.

5. **Kible ile ilgili verilen bilgilerden hangisi yanlıştır?**

- A) İnananların birliğini sembolize eder.
B) Müslümanların ilk kiblesi Kâbe’dir.
C) Namaz kılanların döndüğü yöndür.
D) Beytul Makdis de, Müslümanların kiblesi olmuştur.

6. **Aşağıdakilerden hangisi dini oluşturan temel unsurlardan biri değildir?**

- A) Ekonomi B) İbadet
C) Ahlak D) İman

7. “Namazı önemsemeden, gösteriş yapmak için kılanlara yazıklar olsun.”
(Maûn suresi, 4 - 6. ayetler)

Bu ayetlerde verilen mesaj aşağıdakilerden hangisidir?

- A) Namaz, samimi ve içtenlikle kılınmalıdır.
B) Namaz, insanlarda iç huzuru temin eder.
C) Namaz, insanları kötülüklerden alıkoyar.
D) Namaz kılmak her Müslümana farzdır.

8. **Aşağıdakilerden hangisi abdestin farzlarından biridir?**

- A) Besmele ile başlamak
B) Boynu mesh etmek
C) Başını mesh etmek
D) Ağız ve burnu temizlemek

9. **Kişi aşağıdakilerin hangisine zekâtını verebilir?**

- A) Annesine B) Eşine
C) Dedesine D) Amcasına

10. **Mazeretinden dolayı oruç tutamayanların her bir oruç karşılığında vermesi gereken fidye miktarı aşağıdakilerden hangisidir?**

- A) Yedi fakire en az bir öğün yemek yedirmek
B) Bir fakirin sabah ve akşam yemeğini karşılamak
C) Bir kişiye sadece bir öğün yemek yedirmek
D) İki yoksulun sabah ve akşam yemeklerini karşılamak

11. • Her doğan çocuk fitrat (inanma duygusu) üzerine doğar.
(Hadis-i Şerif)
• Yeryüzünde evi olmayan, giysisi olmayan insanlar görebilirsiniz ama inancı olmayan topluluk göremezsiniz.

Bu bilgiler birlikte değerlendirildiğinde çıkarılabilecek en kapsamlı sonuç aşağıdakilerden hangisidir?

- A) Yeni doğan çocukların sorumlulukları yoktur.
B) Çok tanrılı dinler sonradan ortaya çıkmıştır.
C) İnanmak, insanın en önemli ihtiyaçlarındandır.
D) İnanmak, zengin fakir ayrımı kabul etmez.

12. **Tanrının varlığının ya da yokluğunun bilinemeyeceğini savunan inanç biçimi aşağıdakilerden hangisidir?**

- A) Ateizm
B) Politeizm
C) Gnostisizm
D) Agnostisizm

13. **Kâbe’nin etrafında yedi defa dönmeye ne ad verilir?**

- A) Tavaf B) Vakfe
C) Mikat D) Şavt

14. **Meleklerin özellikleri arasında aşağıdakilerden hangisi yer almaz?**

- A) Günah işlemezler.
B) Çok hızlı hareket ederler.
C) Yaşlanmaları çok geç olur.
D) İkişer, üçer, dörder, kanatları vardır.

15. • Kast sistemi vardır.
• Karma, Reenkarnasyon, Hulûl başlıca kavramlarıdır.
• Brahma, Vişnu, Şiva önemli tanrılarıdır.

Hakkında bilgi verilen din aşağıdakilerden hangisidir?

- A) Sihizm B) Budizm
C) Hinduizm D) Şintoizm

16. “Yedi kollu şamdan” ve “altı köşeli yıldız” **hangi dinin sembolüdür?**

- A) Hristiyanlık B) Yahudilik
C) Budizm D) Konfüçyanizm

17. “...onu ne öldürdüler ne de astılar... Allah onu kendi katına yükseltti...”
(Nisa suresi, 157-158. ayetler)

Bu ayetlerde bahsedilen Peygamber aşağıdakilerden hangisidir?

- A) Hz. Musa B) Hz. Âdem
C) Hz. İsa D) Hz. Süleyman

18. **Aşağıdakilerden hangisi haccın farzlarından biridir?**

- A) Sa’y etmek
B) Saçı kısaltmak
C) Şeytan taşlamak
D) Arafat’ta vakfe yapmak

19. **Aşağıda verilen bilgilerden hangisi yanlıştır?**

- A) Hz. Muhammed (sav.)’e kırk yaşında peygamberlik verilmiştir.
B) Kur’an’ın ilk inen ayetleri Alâk suresinin ilk beş ayetidir.
C) Müslümanlar ilk olarak Habeşistan’a hicret etmişlerdir.
D) Hz. Peygamber Medine’ye Hz. Ömer ile hicret etmiştir.

1. OTURUM

20. • Ölen bütün iyi insanlar Tanrı olur.
• Baba Tanrı ve Ana Tanrı vardır.
• Japonlara özgü milli bir dindir.

Hakkında bilgi verilen din aşağıdakilerden hangisidir?

- A) Caynizm B) Taoizm
C) Şintoizm D) Budizm

(466) TEMEL DİNİ BİL. – 2

1. “Ey iman edenler! Kendi evinizden başka evlere geldiğinizi fark ettirip, ev halkına selam vermedikçe girmeyin. Bu sizin için daha iyidir, herhalde (bunu) düşünüp anlarsınız.”

(Nur suresi, 27. ayet)

Bu ayette tavsiye edilen davranış aşağıdakilerden hangisidir?

- A) Başkasının evine izin alarak girmek
B) Misafirlere ikramda bulunmak
C) Selamlaşmayı yaymak
D) Güler yüzlü olmak

2. “İyilik, yüzlerinizi doğu ve batı tarafına çevirmeniz değildir. Asıl iyilik, o kimsenin yaptığıdır ki Allah’a, ahiret gününe, meleklerle, kitaplara, peygamberlere inanır. (Allah’ın rızasını gözeterek) yakınlarla, yetimlere, yoksullara, yolda kalmışlara, dilenenlere ve kölelere sevdiği maldan harcar, namaz kılar, zekat verir...”

(Bakara suresi, 177. ayet)

Bu ayetin ana düşüncesi aşağıdakilerden hangisidir?

- A) İmanın en önemli esası, Allah inancıdır.
B) Yetimlere ve yoksullara iyilik yapmalıyız.
C) Dünyanın doğusu da batısı da Allah’ındır.
D) İyilik, iman ve ibadetlerle anlam kazanır.

3. **Aşağıdakilerden hangisi hadis ilminin amaçları arasında gösterilemez?**

- A) Kur’an’ı; indiği tarihî zemin içinde tanıtmak
B) Dinin anlaşılmasında sünnetin önemini fark ettirmek.
C) Hz. Muhammed (sav.)’in Kur’an’daki konumunu kavratmak
D) Hz. Muhammed (sav.)’in sünnetinin evrensel boyutunu tanıtmak

4. **Sosyoloji ve toplum psikolojisi alanında ilk eser olarak kabul edilen “Mukaddime” aşağıdaki bilim adamlarından hangisine aittir?**

- A) İbn-i Heysem
B) İbn-i Haldun
C) Ebu Bekir er-Razi
D) Ahmet Cevdet Paşa

5. **Aşağıdakilerden hangisi kendisine suhuf verilen peygamberlerdendir?**

- A) Hz. İdris
B) Hz. Harun
C) Hz. Yunus
D) Hz. Yusuf

6. **Kelime olarak gizli konuşma, ima, fısıldama, işaret etme ve yazıyla bildirme anlamlarına gelen kavram aşağıdakilerden hangisidir?**

- A) Tebliğ B) Tefsir
C) Vahiy D) Tevatür

7. **Kur’an-ı Kerim hangi halife döneminde çoğaltılmıştır?**

- A) Hz. Ebubekir
B) Hz. Ömer
C) Hz. Osman
D) Hz. Ali

8. **Hz. Muhammed (sav.)’in hicretten önce, mesajını ulaştırmak için gittiği ve hoş karşılanmadığı yer aşağıdakilerden hangisidir?**

- A) Taif B) Tebük
C) Medine D) Habeşistan

9. **Hz. Muhammed (sav.)’in söz ve davranışlarını konu edinen bilim dalı aşağıdakilerden hangisidir?**

- A) Tasavvuf B) Tefsir
C) Fıkıh D) Hadis

10. **Hz. Muhammed (sav.), Mekke’de kurulan panayırlarda tevhid hakikatini anlatacak kimseler arıyordu. Bu sırada tanıştığı Medineli altı kişi onu kendi şehirlerine davet ettiler.**

İslam tarihinde bu görüşme hangi isimle bilinmektedir?

- A) Medine Sözleşmesi
B) Hilfu’l-Fudul
C) Akabe Biatları
D) Medine Antlaşması

11. **Aşağıdakilerden hangisi peygamberlerin görevlerinden değildir?**

- A) Yaratılış amacını bildirmek
B) Kıyametin vaktini bildirmek
C) İnsanlara Allah’ı tanıtmak
D) Nasıl ibadet edileceğini öğretmek

12. **Kur’an’ın her beş sayfasından oluşan bölümüne ne denir?**

- A) Cüz B) Hizb
C) Sure D) Ayet

13. **Vahyin indiriliş sürecinin 23 yıl olması aşağıdakilerden hangisini kolaylaştırdığı söylenebilir?**

- A) Yazılıp ezberlenmesini
B) Ortaya çıkan problemlerin çözülmesini
C) Hükümlerinin benimsenmesini
D) Müslümanlara yapılan baskı ve işkencelerin durmasını

1. OTURUM

14. “Ey Resûlum sana Rabb’inden indirilmiş olanı duyur. Eğer bunu yapmazsan görevini yapmamış olursun...”

(Maide Suresi, 67. ayet)

Bu ayette peygamberlerin niteliklerinden hangisi vurgulanmıştır?

- A) Sıdk
C) Tebliğ
B) Emanet
D) Fetanet

15. **Aşağıdakilerden hangisi tasavvuf ilminin amaçları arasında yer almaz?**

- A) İnanç alanındaki farklılaşmanın nedenlerini açıklamak.
B) Kalbi kötü huylardan temizlemek ve iyi huylarla doldurmak.
C) Sünnet-i seniyyeye yapışmak ve bidatlardan kaçınmak.
D) Fâni olan herşeyden yüz çevirip, bâki olana bağlanmak.

16. **Kur’an-ı Kerim’de “Ey insanlar!”, “Ey Âdemoğulları!” gibi hitapların bulunması onun hangi özelliğinin birer delilidirler?**

- A) İlahi kitapların sonuncusu olduğunun
B) Evrensel bir kitap olduğunun
C) İncil’den sonra indirildiğinin
D) İnananları önemseydiğinin

17. İnsanların mallarından bir kısmını bile bile, günah işleyerek ele geçirmek için iş başındakilere yedirek mallarınızı aranızda haksızlıkla yemeyin.”
(Bakara suresi, 188. ayet)

Bu ayette aşağıdakilerin hangisinden uzak durulması istenmektedir?

- A) Rüşvet
C) Zorbalık
B) Hırsızlık
D) Faiz

18. **Aşağıdaki eserlerden hangisi İbni Sina’ya aittir?**

- A) Kitabu’t Tasrif
B) el-Kanun fi’t-Tıp
C) el-Havi
D) Kitabu’s-Saydele

19. **Fıkıh ilminin konusu aşağıdakilerden hangisidir?**

- A) İslam inanç esasları hakkında bilgi vermek
B) Hz. Muhammed (sav.)’in söz ve uygulamalarını öğretmek
C) Kur’an-ı Kerim’in anlaşılmasını ve açıklanmasını sağlamak
D) İbadet, ahlâk ve toplumsal hayat ile ilgili hükümler oluşturmak

20. **Peygamberliğin onuncu yılına hüzün yılı denmesinin nedeni aşağıdakilerden hangisidir?**

- A) Hz. Peygamber’in anne ve dedesinin vefat etmeleri
B) Hz. Peygamber’in amcası Hz. Hamza’nın şehit edilmesi
C) Hz. Peygamber’in çocukları Zeynep ve Rukiye’nin vefat etmeleri
D) Hz. Peygamber’in eşi Hz. Hatice ile amcası Ebu Talip’in vefat etmeleri

(478) MANTIK – 1

1. Doğru veya yanlış bir yargı bildiren ifadelere önerme denir.

Buna göre aşağıdakilerden hangisi önermedir?

- A) Ödevini neden yapmadın?
B) Trafik kazaları olmasın.
C) İnsanlar kardeştir.
D) Vay canına!

2. Birden fazla yargı bildiren önermelere bileşik önerme denir.

Buna göre aşağıdaki önermelerden hangisi bileşik önermedir?

- A) Gökçe çalışır ise sınıfını geçer.
B) Bazı çocuklar yaramazdır.
C) Müzik ruhun gıdasıdır.
D) Ali öğrencidir.

3. “Tüm bitkiler yeşildir” önermesinin karşı olum karesine göre çelişği olan önerme aşağıdakilerden hangisidir?

- A) Hiçbir bitki yeşil değildir.
B) Bazı bitkiler yeşildir.
C) Bazı bitkiler yeşil değildir.
D) Kimi bitkiler yeşildir.

4. Bir önermenin niteliğini bozmadan öznesini yüklem, yüklemine özne yapılması düz döndürmedir.

Buna göre “Bazı madenler katıdır” önermesinin düz döndürmesi aşağıdakilerden hangisidir?

- A) Bütün katılar madendir.
B) Bazı katılar madendir.
C) Hiçbir katı maden değildir.
D) Tüm katılar maden değildir.

5. **Karşı olum karesine göre tümel olumlu önermenin karşıtı aşağıdakilerden hangisidir?**

- A) Çelişik
B) Tikel olumlu
C) Tikel olumsuz
D) Tümel olumsuz

6. Bütün bitkiler canlıdır
Ağaç bitkidir
O halde, ...

Yukarıda verilen kıyasta zorunlu olarak çıkarılacak sonuç önermesi aşağıdakilerden hangisidir?

- A) Ağaç canlıdır.
B) Ağaç bitki değildir.
C) Bazı ağaçlar bitkidir.
D) Bütün bitkiler ağaçtır.

7. Bütün madenler katıdır.
Bakır madendir.
O halde bakır katıdır.

Verilen geçerli kıyasta büyük terim aşağıdakilerden hangisidir?

- A) Bütün
C) Maden
B) Katı
D) Bakır

8. Bütün insanlar akıllıdır.
Sokrates insandır.
O halde Sokrates akıllı değildir.

Verilen hatalı kıyasta aşağıdaki kıyas kurallarından hangisine uyulmamıştır?

- A) İki tikel öncülden sonuç çıkmaz.
B) İki olumsuz öncülden sonuç çıkmaz.
C) İki olumlu öncülden çıkan sonuç olumludur.
D) Öncüllerden biri olumsuzsa sonuç olumsuzdur.

1. OTURUM

9. Bir kıyasta sonuca dayanak olan önermelere verilen ad aşağıdakilerden hangisidir?

- A) Sonuç B) Tanım
C) Kavram D) Öncül

10. Aşağıdakilerden hangisi basit kıyas çeşitlerindendir?

- A) Kesin kıyas
B) Sorit (Yığın)
C) Karma kıyas
D) Zincirleme kıyas

11. Mantık doğrusu, doğruluğu gözlem ve deneyle değil, akıl aracılığıyla bilinen yargılardır.

Buna göre aşağıdakilerden hangisi mantık doğrusuna örnektir?

- A) Taş serttir.
B) Kar beyazdır.
C) Hiçbir insan kedi değildir.
D) Su 100 C'de kaynar.

12. Bütün öğretmenler üretkendir. Kemal öğretmendir. O halde, Kemal de üretkendir.

Verilen akıl yürütme aşağıdakilerden hangisine örnektir?

- A) Tümdengelim
B) Tümevarım
C) Analoji
D) Özdeşlik

13. "Bir şey ne ise odur, her şey kendisinin aynısıdır" özdeşlik ilkesinin tanımıdır.

Aşağıdakilerden hangisi özdeşlik ilkesine örnektir?

- A) Cemre hem başarılı hem de başarısız olamaz.
B) Kapı ya kapalıdır ya da açıktır.
C) Taş hem var hem de yok olamaz.
D) Öğrenci öğrencidir.

14. Aşağıdakilerden hangisi İslâm mantıkçılarından biri değildir?

- A) İbn-i Sina B) Aristoteles
C) Farabi D) Râzi

15. Dil içinde tek başına anlam taşıyan en küçük birime terim denir.

Buna göre aşağıdakilerden hangisi terimdir?

- A) Ve B) İle
C) Bu D) Kelebek

16. Duyularla algılanan, bir nesneye işaret eden kavramlara somut kavram denir.

Buna göre aşağıdakilerden hangisi somut kavramdır?

- A) Güzellik B) Yiğitlik
C) Kitaplık D) İnsanlık

17. İnsanın hem neliği hem de gerçekliği vardır fakat, "kaf dağ"ının neliği vardır ama gerçekliği yoktur

Kavramların gerçeklik olarak belirlenmesinin ölçütü aşağıdakilerden hangisidir?

- A) Kavramın anlaşılır olması
B) Kavramın olumlu olması
C) Kavramın Tikel olması
D) Kavramın dış dünyada bulunması

18. Varlık → Canlı → Hayvan → Kuş

Yukarıdaki kavram sıralamasında kaplamı en fazla olan hangisidir?

- A) Varlık B) Canlı
C) Hayvan D) Kuş

19. Hiçbir kedi köpek değildir. Hiçbir köpek kedi değildir.

Bu yargılara göre kedi ve köpek kavramları arasındaki ilişki çeşidi aşağıdakilerden hangisinde verilmiştir?

- A) Eşitlik
B) Ayrıklık
C) Tam girişimlilik
D) Eksik girişimlilik

20. İlinti, birçok türde ortaklaşa bulunan özelliklerdir.

Buna göre aşağıdakilerden hangisi insanın ilintisidir?

- A) Sosyalleşmek
B) Alet yapmak
C) Yürümek
D) Düşünmek

(483) SAĞLIK BİLGİSİ – 1

1. Aşağıdakilerden hangisi, birinci basamak tedavi hizmetleri kapsamında değerlendirilir?

- A) Sağlık ocakları
B) Entegre ilçe hastaneleri
C) Eğitim ve araştırma hastaneleri
D) Kamu kurumlarına ait tıp merkezleri

2. I. Psikolog
II. Fizyoterapist
III. Fizik tedavi uzmanı

Yukarıdakilerden hangileri, rehabilitasyon tedavisi ekibinde bulunan kişilerdendir?

- A) Yalnız I B) I ve II.
C) II ve III. D) I, II ve III.

3. Aşağıdakilerden hangisi, sağlık hizmeti almak için sağlık kuruluşuna başvuranların sahip olduğu haklardan biri değildir?

- A) İnsani değerlere saygı gösterilmesi ve ziyaret hakkı
B) Hastane malzemelerine zarar verme hakkı
C) Refakatçi bulundurma hakkı
D) Bilgi talep edebilme hakkı

4. Bir takvim yılında görülen ölüm sayısını, o ülkenin yıl ortası nüfusuna bölümünün bin ile çarpımına ne ad verilir?

- A) Ana ölüm hızı
B) Nüfus artış hızı
C) Kaba ölüm hızı
D) Bebek ölüm hızı

1. OTURUM

	Büyüme	Gelişme
I.	Niceliksel ve niteliksel değişiklikler beraber olur.	Sadece niceliksel değişiklikler gözlenir.
II.	Fiziksel değişim vardır.	Fiziksel, bilişsel, duygusal ve sosyal özellikler ortaya çıkar.

Büyüme ile Gelişme kavramları arasındaki temel farklarla ilgili olarak, tabloda verilen bilgiler için ne söylenebilir?

- A) I. doğru, II. yanlış
- B) I. yanlış, II. doğru
- C) Her ikisi de doğru
- D) Her ikisi de yanlış

6. Aşağıdakilerden hangisi, sağlıklı bir bebeğin 6. ayında görülebilen davranışlardandır?

- A) Emeklemesi
- B) Kendi başına yürümesi
- C) Bir eşyayı tutup kendine çekek ayağa kalkması
- D) Mama sandalyesinde oturup sallanan nesneyi yakalaması

7. I. Yaşıtlarıyla birlikte oynamayı öğrenmesi
II. Geniş refleksler topluluğuna sahip olması
III. Kendi davranışlarının sorumluluğunu yüklenmesi

Yukarıdakilerden hangileri, okul çağı dönemindeki sağlıklı bir çocuğun sahip olduğu özelliklerdendir?

- A) I ve II.
- B) I ve III.
- C) II ve III.
- D) I, II ve III.

8. Aşağıdakilerden hangisi, fiziksel aktivitenin sağladığı yararlardandır?

- A) Vücudun düzenli çalışması
- B) Zihinsel gelişimin yavaşlaması
- C) Duygusal gelişimin engellenmesi
- D) Tüketilen besinlerin vücuda verdiği zararları artırması

9. Üç basamağı olan sağlığın korunması kavramı birincil, ikincil ve üçüncül koruma hizmetlerini içerir.

Buna göre verilenlerden hangisi, birincil koruma hizmetleri kapsamında değerlendirilir?

- A) Erken tanı
- B) Rehabilitasyon
- C) Aile planlaması
- D) Tedavi hizmetleri

10. Şişmanlığı saptamak için kullanılan yöntemlerin en çok tercih edileni beden kitle indeksine (BKİ) göre değerlendirme yöntemidir.

Buna göre beden kitle indeksi "18.5 kg/boy'un altında" olan kişiler için ne söylenebilir?

- A) Zayıf
- B) Normal
- C) Şişman
- D) Hafif şişman

11. **Banyo yapma ve giyecek temizliğiyle ilgili verilenlerden hangisi yanlıştır?**

- A) Suyun, kurna ya da kovadan alınarak kullanılmasının uygun olması
- B) Başkasına ait havlu, terlik, kese gibi malzemelerin kullanılması
- C) Banyo yapılırken suyun sıcaklığının ortalama 33-38°C olması
- D) Yatarken giyilen kıyafetlerin sık yıkanması ve ütülenmesi

12. I. Kemik iltihapları
II. Alerjik rahatsızlıklar
III. Kalp zarı iltihaplanması

Yukarıdakilerden hangileri, dış etlerinde meydana gelebilecek iltihaplanma ya da dışlerdeki çürümeye bağlı enfeksiyonların neden olduğu rahatsızlıklardandır?

- A) Yalnız I
- B) I ve II.
- C) II ve III.
- D) I, II ve III.

13. **Aşağıdakilerden hangisi, ruh sağlığı hizmetlerinin ikincil koruma ilkelerindendir?**

- A) İlaç kullanımının takip edilmesi
- B) Kişisel gelişim programlarının uygulanması
- C) Kromozomal anomalileri önlemek amacıyla eğitim verilmesi
- D) Ruh sağlığı açısından risk gruplarının belirlenmesi ve önlem alınması

14. Sınav kaygısının fizyolojik, duygusal ve bilişsel belirtileri vardır.

Buna göre verilenlerden hangisi, sınav kaygısının duygusal ve bilişsel belirtilerinden biri değildir?

- A) Sinirlilik
- B) Huzursuzluk
- C) Solunumun hızlanması
- D) Düşüncelerin bloke olması

15. I. Zihinde canlandırma
II. Aşırı genellemelerden kaçınma
III. Problem çözme tekniklerini kullanma

Yukarıdakilerden hangileri, stresle başa çıkmada kullanılan etkili yöntemlerdendir?

- A) Yalnız I
- B) Yalnız II
- C) Yalnız III
- D) I, II ve III.

16. Kişiler arası iletişim sözlü ve sözsüz iletişim olarak iki şekilde sınıflandırılır.

Buna göre aşağıdakilerden hangisi, sözlü iletişim öğelerindendir?

- A) Göz ilişkisi
- B) Yüz ifadesi
- C) Vücudun duruşu
- D) Mektuplara yazılanlar

17. "Kendi aranızda konuşunca arkadaşlarınızı duyamıyorum ve üzülüyorum." **cümlesiyle verilen mesaj, aşağıdakilerden hangisiyle ifade edilmiştir?**

- A) Ben dili
- B) Sen dili
- C) O dili
- D) Siz dili

1. OTURUM

18. "Dumansız Hava Sahası" kapsamında kişilerin sigara bırakma kararlılığını desteklemek amacıyla yürütülen çalışmalardan biri olan ALO - - - - Sigarayı Bırakma Danışma Hattı ile sigarayı bırakmak isteyen kişilere 7 gün 24 saat hizmet sunulmaktadır.

Bu ifadede boş bırakılan yere aşağıdakilerden hangisi yazılmalıdır?

- A) 112 B) 155
C) 171 D) 183

19. **Aşağıdakilerden hangisi, alkolün merkezî sinir sistemine etkilerindendir?**

- A) Siroz
B) Gastrit
C) Vitamin eksikliği
D) Konuşmada zorlanma

20. **Aşağıdakilerden hangisi, uyuşturucu maddelerin solunum sistemine etkilerindendir?**

- A) Şaşılık B) Öksürük
C) Kabızlık D) Kansızlık

(484) SAĞLIK BİLGİSİ – 2

1. **Aşağıdakilerden hangisi etkili ebeveynlerin özelliklerindendir?**

- A) Çocuklarının hatalarını anlayışla kabul etmeleri
B) Çocuklarla ilgili kararlarda yalnızca babanın söz sahibi olması
C) Çocuklarının yetenek ve gelişimlerinin üstünde beklentiler içine girmeleri
D) Çocuklarının bakımı ve yetiştirilmesinde yalnızca annenin sorumluluk alması

2. Çeşitli nedenlerle öz ailesi yanında bakılmayan çocukların, kısa veya uzun süreli olarak bakımlarını üstlenen aile ya da kişilere koruyucu aile denilmektedir.

Buna göre verilenlerden hangisi, koruyucu aile olabilmek için gerekli koşullardan biri değildir?

- A) 25-65 yaş aralığında bulunmak
B) En az üniversite mezunu olmak
C) Türkiye'de sürekli ikamet etmek
D) Türkiye Cumhuriyeti vatandaşı olmak

3. **Aşağıdakilerden hangisi, aile planlamasının amaçlarından biri değildir?**

- A) Doğum yaşının ayarlanması
B) İstenmeyen gebeliklerin önlenmesi
C) Çocuk sahibi olmayan ailelere yardımcı olunması
D) Ailelerin, istedikleri cinsiyette çocuk sahibi olmalarının sağlanması

4. I. Anne sütünü etkilemediği için emziren kadınlar da kullanabilir.
II. Kadında doğal olarak bulunan kadınlık hormonlarından yalnızca birini (progesteron) içerir.

Genel koruma yöntemlerinden "mini hap" ile ilgili verilenler için ne söylenebilir?

- A) I. doğru, II. yanlış
B) I. yanlış, II. doğru
C) Her ikisi de doğru
D) Her ikisi de yanlış

5. **Gebeliğin, kaçınıcı haftadan önce sona ermesi "düşük" olarak adlandırılır?**

- A) 20. B) 25. C) 30. D) 35.

6. **Gebeliğin son döneminde, yetersiz beslenmenin de içinde bulunduğu birçok nedene bağlı olarak ortaya çıkan gebelik zehirlenmesinde, aşağıdakilerden hangisi görülür?**

- A) Kan basıncının düşmesi
B) İdrarla D vitamininin atılması
C) El ve ayaklarda ağır ödem oluşması
D) Plasenta dolaşımının iyi olması

7. I. Kendisi Rh(-), eşi Rh(+) kan grubuna sahip olan anne adaylarının dikkatli olması gerekir.
II. Anne Rh(-), bebek Rh(-) olduğunda kan uyuşmazlığı vardır.

Yukarıda kan uyuşmazlığıyla ilgili verilen bilgiler için ne söylenebilir?

- A) I. doğru, II. yanlış
B) I. yanlış, II. doğru
C) Her ikisi de doğru
D) Her ikisi de yanlış

8. **Aşağıdakilerden hangisi, iki yıldan kısa aralıklarla ve çok sayıda yapılan doğumların anne, çocuk ve toplum sağlığı üzerindeki etkilerinden biri değildir?**

- A) Annede kansızlığa sebep olması
B) Annenin ruh sağlığında bozulmaya yol açması
C) Toplumda, hasta anne ve çocuk sayısını artırması
D) Gebelik, düşük ve doğuma bağlı anne ölümlerini azaltması

9. **Anne sütünün yeterince verilemediği sağlıklı bebeklerde, kaçınıcı aydan sonra ek gıdalara başlanmalıdır?**

- A) 1. B) 3. C) 6. D) 9.

10. **Gebelere - - - - aşısı (gebeliğin 4. ayında 1. aşı, birinci aşıdan en az 4 hafta sonra 2. aşı, ikinci aşıdan 6 ay sonra 3. aşı) yaptırılmalıdır.**

Bu ifadede boş bırakılan yere aşağıdakilerden hangisi yazılmalıdır?

- A) BCG B) Tetanos
C) Kızamık D) Suçiçeği

1. OTURUM

11. Aşağıdakilerden hangisi, kanserin oluşumunda rol oynayan nedenlerdendir?

- A) Sigara ve alkol kullanımından kaçınma
- B) Yeterli ve dengeli beslenme alışkanlığı
- C) Radyasyona maruz kalma
- D) Temiz hava

12. Aşağıdakilerden hangisi, kanserden korunmak için alınması gereken önlemlerdendir?

- A) Günlük tuz tüketiminin 5-6 gramı geçmesi
- B) Haftada 3 gün en az 30 dakika yürüyüş yapılması
- C) Doymuş yağ asidi içeren yağların tercih edilmesi
- D) Tavuk ve balık eti yerine fazla yağlı kırmızı etlerin tercih edilmesi

13. Şeker (diyabet) hastalarının, sağlıklı bir yaşama sahip olmak ve kan şekerlerini dengede tutabilmek için uymaları gereken bazı kurallar vardır.

Buna göre verilenlerden hangisi, şeker (diyabet) hastalarının uymaları gereken kurallardandır?

- A) Egzersiz yapmak
- B) Çıplak ayakla dolaşmak
- C) Her on yılda bir, göz ve böbrek muayenesi yaptırmak
- D) Ayaklarını haftada bir sıcak suyla yıkamak ve kurulamaktan kaçınmak

14. Hipertansiyon, kalp ve damar hastalıklarının en önemlilerinden birisidir. Eğer tedavi edilmezse vücudumuzun çeşitli bölgelerinde ciddi sorunlar ortaya çıkarabilir.

Buna göre

- I. Böbrek hasarı
- II. Gözlerde görme kaybı
- III. Beyin kanaması ve felç

verilenlerden hangileri, hipertansiyonun vücudumuza verdiği zararlardandır?

- A) Yalnız I
- B) I ve II.
- C) II ve III.
- D) I, II ve III.

15. Talasemi majör, bebeklerde 3-4 aylıkken başlayan ve sürekli kan nakli gerektiren çok ciddi bir kan hastalığıdır.

Buna göre aşağıdakilerden hangisi, talasemi majörün belirtilerindendir?

- A) İştahın artması
- B) Karın bölgesinin şişmesi
- C) Karaciğer ve dalağın küçülmesi
- D) Ateşin sık sık normalin altında ölçülmesi

16. Astımı tedavi etmekte kullanılan üç ayrı grup ilaç aşağıda verilmiştir.

Buna göre

- I. Önleyiciler
- II. Rahatlatıcılar
- III. Kurtarıcı ya da acil ilaçlar

verilenlerden hangileri "solunum yollarındaki duyarlılığı ortadan kaldırmak ve uzun süreli kullanımda hastalığı tedavi etmek için" tercih edilen ilaç gruplarındandır?

- A) Yalnız I
- B) Yalnız II
- C) Yalnız III
- D) I, II ve III.

17. Aşağıdakilerden hangisi, bulaşıcı hastalıklardan korunmak için "bulaşma yollarına yönelik" olarak alınan önlemlerdendir?

- A) Ekonomik düzeyin düzeltilmesi
- B) Dengeli ve yeterli beslenilmesi
- C) Hayvanların kontrol edilmesi
- D) Sağlam kişilerin aşılması

18. Su ve besinlerle bulaşan hastalıklarla ilgili verilenlerden hangisi yanlıştır?

- A) Toplumların eğitim ve genel gelişmişlik düzeyleriyle yakın ilişkili olan hastalıklar olması
- B) Sıcak, nemli havalar ve kötü hijyenik koşullarda oluşması
- C) Genelde ağız ve dışkı yoluyla bulaşması
- D) Genellikle kış aylarında görülmesi

19. Aşağıdakilerden hangisi, temas yoluyla bulaşan hastalıklardan korunmak için yapılması gereken uygulamalardan biri değildir?

- A) Kişisel hijyene gereken önemin verilmesi
- B) Aşı yaptırmaktan kaçınılması
- C) Kapalı alanlarda enfeksiyon bulgusu olan kişilerle temastan kaçınılması
- D) Grip ve soğuk algınlığı bulunan kişilerle tokalaşmak ve sarılmaktan kaçınılması

20. • Kuluçka süresi 2-30 gündür.
• Hastalığın etkeni bakterilerdir.
• Cinsel yolla bulaşan hastalıklardan en sık rastlanandır.

Yukarıda bazı özellikleri verilen ve cinsel yolla bulaşan hastalık, aşağıdakilerden hangisidir?

- A) AIDS
- B) Frengi
- C) Hepatit B
- D) Bel soğukluğu

(491) TRAF. VE İLK YARD. – 1

1. Yaya, hayvan ve motorsuz araçların giremediği, ancak izin verilen motorlu araçların yararlandığı, trafiğin özel kontrole tabi tutulduğu kara yolu aşağıdakilerden hangisidir?

- A) Tali yol
- B) Geçiş yolu
- C) Otoyol
- D) Bağlantı yolu

2. Kara yolunda araç kullanan bir sürücünün, aşağıdakilerden hangisini yapması zorunludur?

- A) Bağlantı yollarında geri gitmesi
- B) Tek yönlü yola ters yönden girmesi
- C) Diğer sürücülerini tedirgin edecek şekilde araç kullanması
- D) Tali yoldayken ana yoldaki araçlara ilk geçiş hakkını vermesi

1. OTURUM

3. I. Hoşgörülü olunması
II. Bencillikten uzak durulması
III. Olaylara aşırı tepki gösterilmesi

Trafik ortamını paylaşanlarda, yukarıda verilen tutum ve davranışlardan hangilerinin bulunması hâlinde trafik düzeni ve güvenliği olumlu yönde etkilenir?

- A) Yalnız I B) I ve II.
C) II ve III. D) I, II ve III.

4. Aşağıdakilerden hangisi, trafiğin çevre üzerindeki olumsuz etkilerindendir?

- A) Araç bakımlarının zamanında ve tam olarak yaptırılmasına özen gösterilmesi
B) Araçların egzoz borusu ve susturucularında orijinalliğin korunması
C) Egzoz gazlarının hava kirliliğine neden olması
D) Araç içinde daha kısık sesle müzik dinlenmesi

5. Aşağıdakilerden hangisi, kişiye bağlı gelişen trafik kazası nedenlerinden biri değildir?

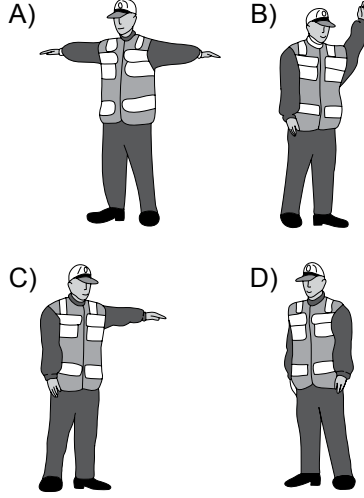
- A) Alkol ve madde bağımlılığı
B) Uzun yolculuklar ve yorgunluk
C) Tehlikeye atılmaya hazır kişilik yapısı
D) Olumsuz hava şartları ve yolların bozuk olması

6. • Kaza sonrası meydana gelen maddi hasar miktarı
• İş gücü kaybının yanı sıra yaralıların tedavi süreçleri ve maliyeti

Trafik kazalarıyla ilgili olarak verilenler, aşağıdakilerden hangisini olumsuz yönde etkiler?

- A) Ülke ekonomisini
B) Kasko sigortasının önemini
C) Bireylerde trafik bilincinin oluşmasını
D) Taşıt güvenlik donanımlarının gelişimini

7. Akan trafikte, trafik görevlisinin hangi hareketi “daha önce açık olan yolun kapanacağı, kapalı olan yolun ise açılacağı” anlamındadır?



8. Işıklı trafik işaret cihazında yanan hangi ışık, ikaz mahiyetinde olup yanlış sırasına göre yolun trafiğe kapanmak veya açılmak üzere olduğunu gösterir?

- A) Sarı ışık
B) Yeşil ışık
C) Kırmızı ışık
D) Kırmızı oklu ışık

- 9.



Şekildeki trafik işareti aşağıdakilerden hangisini bildirir?

- A) Bütün yasakların sona erdiğini
B) Kontrolsüz kavşağa yaklaşıldığını
C) Duraklama ve park etme yasağını
D) Yolun araç trafiğine kapalı olduğunu

10. Taşıt yolu (Kaplama) üzerine çizilen hangi çizgi, taşıt yolunu bölünmüş yol durumuna getiren ayırıcı anlamındadır?

- A) Kesik yol çizgisi
B) Devamlı yol çizgisi
C) Kesik ve devamlı yol çizgisi
D) Yan yana iki devamlı yol çizgisi

11. Seyir esnasında araçlarda hangisinin kullanılması, olası bir kaza anında ölüm ve yaralanma riskini azaltır?

- A) Reflektör
B) Polen filtresi
C) Çekme halatı
D) Emniyet kemeri

12. Alkollü içki içen bir sürücünde aşağıdaki durumlardan hangisi görülür?

- A) Dinç ve zinde olma
B) Reflekslerinde zayıflama
C) Manevra kabiliyetinde artma
D) Aşırı hareketli ve uyumlu olma

13. Kara yollarında araç kullanan bir sürücünün, aşağıdakilerden hangisini yapması yasaktır?

- A) İki şeridi birden kullanması
B) Aracını gidiş yönüne göre yolun en sağından sürmesi
C) Gidişe ayrılan yol bölümünün en sol şeridini sürekli işgal etmekten kaçınması
D) Şerit değiştirmeden önce, gireceği şeritte sürülen araçların güvenle geçişlerini beklemesi

14. Aracın 2 saniyede gideceği yol uzunluğu, hangi mesafenin belirlenmesinde kullanılır?


- A) İntikal mesafesi
B) Görüş mesafesi
C) Takip mesafesi
D) Geçiş mesafesi

15. Aşağıdakilerden hangisinin kara yollarında geceleri seyredenken yapılması yasaktır?

- A) Karşılaşmalarda ışıkların söndürülmesi
B) Geçme sırasında öndeki aracın ışıkla uyarılması
C) Öndeki araç yakından izlenirken kısa hüzmeli farların yakılması
D) Sis ışıklarının sadece sis, kar ve şiddetli yağmur sebebiyle görüşün yetersiz olduğu hallerde kullanılması

1. OTURUM

16. Şekildeki akaryakıt istasyonundan çıkmak isteyen 2 numaralı aracın sürücüsü ne yapmalıdır?



- A) Geçiş hakkını kendi kullanmalı
B) Hızlanarak yoluna devam etmeli
C) 1 numaralı aracın geçmesini beklemeli
D) Korna çalıp 1 numaralı aracı durdurmalı
17. I. Taşıt yolu üzerinde yer açmak
II. Gerekliyse durmak ve beklemek
III. Bir kavşakta ise kavşağı derhal boşaltmak

Geçiş üstünlüğü bulunan bir aracın duyulur veya görülür işaretini alan araç sürücüleri, yukarıda verilenlerden hangilerini yapmak zorundadır?

- A) Yalnız I B) I ve II.
C) II ve III. D) I, II ve III.

18. • Motor durdurulur.
• Araç el freni ile tespit edilir.
• Eğimli yollarda inişte geri, yokuşta birinci vitese takılır.

Yukarıda verilen esaslar hangi durumda uygulanır?

- A) Durma
B) Geri gitme
C) Park etme
D) U dönüşü yapma

19. Aşağıdakilerden hangisi, trafik kazalarıyla ilgili olarak kazaya karışan veya olay yerinden geçmekte olanların yükümlülüklerinden biri değildir?

- A) Olayı zabıta veya sağlık kuruluşuna bildirmek
B) Kaza geçirdiği belli olan araçları bir deftere işlemek
C) Kaza yerinde usulüne uygun ilk yardım tedbirlerini almak
D) Yetkililerin istemesi halinde yaralıları en yakın sağlık kuruluşuna götürmek

20. Aşağıdakilerden hangisi, yaya- lar için para cezasını gerektiren davranışlardandır?

- A) Trafığı tehlikeye düşürecek şekilde taşıt yolunda yürümek
B) Görüşün az olduğu hâllerde uyarıcı tedbirleri almak
C) Yaya alt ve üst geçitlerini kullanmak
D) Işıklı trafik işaretlerine uymak

(492) TRAF. VE İLK YARD. – 2

1. Ülkemizde ilk yardım gerektiren her durumda, 112 Acil Yardım Servisinin aranması ve gerekli bilgilerin doğru olarak verilmesi bir insanlık görevidir.

Buna göre 112 Acil Yardım Servisinin aranması sırasında dikkat edilecek hususlarla ilgili olarak aşağıdakilerden hangisi doğrudur?

- A) Olayın tanımını yaptıktan kaçınmak
B) Kimin, hangi numaradan aradığını bildirmekten kaçınmak
C) Herhangi bir ilk yardım uygulaması yapıldıysa bu durumu sağlık personelinden gizlemek
D) Sakin olmak ya da sakın olan bir kişinin aramasını sağlamak

2. Aşağıdakilerden hangisi, kaza sonrası güvenli bir ortamın oluşturulması için yapılması gereken uygulamalardandır?

- A) Olay yerinin diğer araç sürücüleri tarafından görünmesinin engellenmesi
B) Yardımı güçleştirecek meraklı kişilerin olay yerinden uzaklaştırılması
C) Araç LPG'li ise bagajında bulunan tüpün vanasının kapatılması
D) Kazaya uğrayan aracın kontağının açık bırakılması

3. Kazazedenin dolaşımı değerlendirilirken;

- I. Bebeklerde kol atardamarından,
II. Çocuk ve yetişkinlerde şah damarından nabız alınır.

Verilenler için aşağıdakilerden hangisi söylenebilir?

- A) I. doğru, II. yanlış
B) I. yanlış, II. doğru
C) Her ikisi de doğru
D) Her ikisi de yanlış

4. İlk yardımcı, başını kazazedenin göğsüne bakacak şekilde yan çevirerek yüzünü kazazedenin ağzına yaklaştırır, - - - - ile solunum yapıp yapmadığını 10 saniye süreyle değerlendirir.

Bu ifadede boş bırakılan yere aşağıdakilerden hangisi yazılmalıdır?

- A) Bak-Dinle-Hisset yöntemi
B) Heimlich manevrası
C) Turnike uygulaması
D) Şok pozisyonu

5. Yetişkinlere ve bebeklere yapılan temel yaşam desteği uygulamasında, göğüs kemiği kaç cm aşağı incek şekilde kalp basısı uygulanır?

	Yetişkin	Bebek
A)	3	1
B)	4	2
C)	5	4
D)	7	6

6. Kalp masajı uygulaması, aşağıdaki durumların hangisinde sonlandırılır?

- A) Kalp çalıştığında
B) 112'ye haber verildiğinde
C) Kazazedenin akrabaları geldiğinde
D) Kazazedenin cildinde kızarıklıklar gözlemlendiğinde

1. OTURUM

7. I. 18 yaşını doldurmamış kişiler
II. Organlarının karşılığında mad-di kazanç şartı koşan kişiler
III. Doku ve organlarını bağışla-mayı sağlığındayken belge-lendirdikten sonra hayatını kaybetmiş kişiler

Verilenlerden hangileri, yasal olarak doku ve organ bağışında bulunabilir?

- A) Yalnız I B) Yalnız II
C) Yalnız III D) I, II ve III.

8. Suda boğulmalarda uygulanan ilk yardım uygulamasıyla ilgili verilenlerden hangisi doğrudur?

- A) Suni solunum uygulamasının sığ sularda yapılması mümkün olmadığı için, kazazedenin derin suya doğru çekilmesi beklenmelidir.
B) Soğuk havalarda, 20-30 dakika geçse bile yapay solunum ve kalp masajına başlanır.
C) Suya atlama sonucu oluşan boğulmalarda, baş iyice arkaya itilerek kazazedeye pozisyon verilir.
D) Ağızdan buruna suni solunum uygulaması tercih edilmez.

9. Uzun kopması durumunda, kopan parça kazazedeye birlikte en geç kaç saat içinde sağlık kuruluşuna sevk edilmelidir?

- A) 6 B) 9 C) 12 D) 15

10. Aşağıdakilerden hangisi, yaralanmalarda uygulanan genel ilk yardım kurallarından biri değildir?

- A) Kanamanın durdurulması
B) Yara yerinin değerlendirilmesi
C) Yaşam bulgularının kontrol edilmesi
D) Yara üzerinin pamukla kapatılması

11. I. Kulağın su ile iyice yıkanması
II. Acil Yardım Servisinin aranarak tıbbi yardım istenmesi
III. Kesinlikle sivri ve delici bir cisimle müdahale edilmemesi

Verilenlerden hangileri, kulağa yabancı bir cisim kaçması durumunda yapılacak ilk yardım uygulamalarındandır?

- A) I ve II. B) I ve III.
C) II ve III. D) I, II ve III.

12. Birinci derece yanıklarla ilgili olarak verilenlerden hangisi doğrudur?

- A) Sinirler zarar gördüğü için ağrı hissinin olmaması
B) Derinin yalnızca üst kısmının zarar görmesi
C) Deride içi su dolu kabarcıkların oluşması
D) İyileşince deride yanık izi kalması

13. Zorlama, çarpma, düşme veya çeşitli darbeler sonucu oluşan ve eklem yüzeylerinin kalıcı olarak ayrılmasına sebep olan duruma ne ad verilir?

- A) Donma B) Kırık
C) Burkulma D) Çıkık

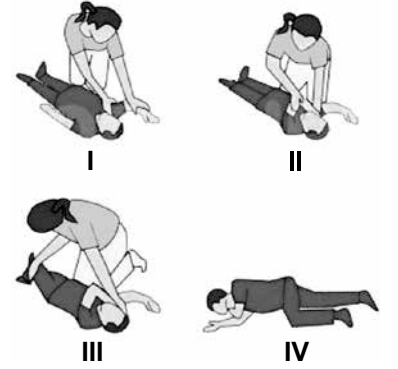
14. Kırık, çıkık ve burkulmaların tespiti sırasında dikkat edilmesi gereken hususlarla ilgili olarak, aşağıdakilerden hangisi yanlıştır?

- A) Yaralı bölgenin düzeltilmeye çalışılması
B) Yara varsa üzerinin temiz bir bezle kapatılması
C) Tespit edilecek bölgenin öncelikle yumuşak malzemeyle kaplanması
D) Tespitin, yaralı bölgenin üstünde ve altında kalan eklemleri de içine alacak şekilde yapılması

15. Aşağıdaki durumların hangisinde kazazedenin sevk, sırtüstü yatar pozisyonda sedye ile yapılmalıdır?

- A) Bacak kemiği kırığı
B) Ön kol kemiği kırığı
C) Üst kol kemiği kırığı
D) Köprücük kemiği kırığı

16. Resimde görülen uygulama hangi pozisyonun verilmiş aşamalarını göstermektedir?



- A) Şok pozisyonu
B) Koma pozisyonu
C) Baş-çene pozisyonu
D) Yarı oturuş pozisyonu

17. Aşağıdakilerden hangisi, kan şekeri düşmüş olan kazazedeye yapılacak hatalı ilk yardım uygulamalarındandır?

- A) 15-20 dakikada belirtiler geçmiyorsa sağlık kuruluşuna gitmesi için yardım çağırılması
B) Bilinci yerinde ve kusmuyorsa ağızdan şeker, şekerli içecekler verilmesi
C) Bilinci yerinde değilse oturuş pozisyonu verilmesi
D) ABC'sinin değerlendirilmesi

18. Aşağıdakilerden hangisi, deniz canlılarının sokması durumunda yapılacak ilk yardım uygulamalarındandır?

- A) Batan diken varsa ve görünüyorsa çıkartılması
B) Yaralı bölgeye soğuk uygulama yapılması
C) Yaralı bölgenin hareket ettirilmesi
D) Etkilenen bölgenin ovulması

1. OTURUM

19. I. Baş-boyun-gövde hizasını bozmadan araçtan dışarı çekilir.
II. Araç dışına çıkarıldıktan sonra yavaşça yere veya sedyeye yerleştirilir.
III. Ayaklarının pedala sıkışmadığından emin olunur, emniyet kemeri açılır.
IV. Yan tarafından yaklaşılr ve bir elle kolu, diğer elle de çenesi kavranarak hafif hareketle boynu tespit edilir.

Araç içindeki kazazedenin çıkarılmasında kullanılan Rentek Manevrası uygulama basamaklarının doğru sıralaması, hangi seçenekte verilmiştir?

- A) I - II - III - IV B) II - IV - I - III
C) III - IV - I - II D) III - IV - II - I

20. Kazazedenin taşınmasında sedyeye kullanımıyla ilgili verilenlerden hangisi doğrudur?

- A) Sedyenin daima dikey konumda olması
B) Ayakları gidiş yönünde olacak şekilde taşınması
C) Güçlü olan ilk yardımcının kazazedenin ayak kısmında olması
D) Öndeki ilk yardımcının sağ, arkadaki ilk yardımcının sol ayağıyla yürümeye başlaması

(500) İNGİLİZCE – 6

1 - 20. sorularda boş bırakılan yere uygun gelen kelime veya ifadeyi işaretleyiniz.

1. Turgay was able to read and write - - - - he was only five years old.

- A) whether B) if
C) unless D) when

2. The classroom is very noisy. I can't hear - - - - the teacher is talking about.

- A) when B) where
C) what D) if

3. I want to see İstanbul - - - - there are lots of historical buildings.

- A) when B) where
C) how D) why

4. I will call you - - - - I arrive in New York.

- A) as soon as B) because
C) while D) where

5. My father went to work - - - - we woke up this morning.

- A) even if B) although
C) before D) if

6. - - - - Ali was only six years old, he was able to ride his bike himself.

- A) If B) So
C) While D) Although

7. You should take your coat on. It is - - - - cold today.

- A) that B) many
C) quite D) what

8. The film was - - - - boring - - - - I didn't watch it.

- A) such / that B) so / that
C) as / as D) so / as

9. Mustafa has bought his ticket. He will be flying to Paris - - - -.

- A) last year
B) since Friday
C) two days ago
D) next weekend

10. Suat has solved all difficult questions - - - -.

- A) easily B) usually
C) rarely D) tightly

11. - - - - he was overweight, he could run faster than his friends.

- A) While B) Because
C) Although D) As soon as

12. - - - - I use your phone? Mine is out of order.

- A) Have B) Could
C) Would D) Should

13. Her sister has been - - - - here for a long time.

- A) living B) to live
C) lives D) live

14. I - - - - abroad this time next year.

- A) was going
B) am studying
C) will be working
D) have been sleeping

15. If I - - - - fast, I would have won the race.

- A) run B) had run
C) can run D) will run

16. If she knew a foreign language, she - - - - the job.

- A) got B) had got
C) will get D) would get

17. If you don't water them, - - - -.

- A) it becomes ice
B) they get larger
C) the flowers die
D) cars can get wet

18. If you do exercises regularly, - - - -.

- A) you could save her
B) you can lose weight
C) you would be happy
D) you had some money

1. OTURUM

19. - - - - if I went to his wedding ceremony.

- A) I would wear a red dress
- B) I will have my own car
- C) I can help your brother
- D) I could have married

20. If you had asked me, - - - - .

- A) it starts to burn easily
- B) he could pass the exam
- C) they can go to the theatre
- D) I would have lent you money

(500) ALMANCA – 6

1 - 19. sorularda boş bırakılan yere uygun gelen kelime ya da ifadeyi işaretleyiniz.

1. Montag, - - - - , Mittwoch.


- A) Dienstag B) Donnerstag
- C) Freitag D) Samstag

2. Klaus : Warum sparst du Geld?

Peter : - - - - ich mir ein Haus kaufen kann.

- A) Das B) Damit
- C) Denn D) So

3.



A: Wie spät ist es?

B: Es ist - - - - .

- A) halb acht
- B) Viertel nach acht
- C) halb neun
- D) Viertel vor acht


4. Sommer, Herbst, - - - -

- A) Jahr B) Tag
- C) Winter D) Monat

5. Ayşe ist 16 Jahre alt. Susi ist auch 16 Jahre alt. Ayşe ist - - - - alt - - - - Susi.

- A) so / wie B) als / wie
- C) wie / als D) wie / so

6.



A: Wie ist das Wetter?

B: Es - - - - .

- A) regnet B) ist Gewitter
- C) ist sonnig D) schneit

7. Der Computer, - - - - ich gestern gekauft habe, ist sehr gut. (Akkusativ)

- A) der B) die
- C) das D) den

8. Klaus und Ali haben die - - - - Schuhgröße.

- A) gleich B) gleiche
- C) selber D) selbst

9. Mein Vater sagt, er - - - - gerne Pilot geworden.

- A) ist B) war C) sein D) wäre

10. Helga lernt türkisch, - - - - sie in Antalya leben möchte.

- A) um B) denn
- C) weil D) aber

11. - - - - es regnet, spielen die Schüler Fußball.

- A) Denn B) Obwohl
- C) Trotzdem D) So

12. Das schwarz- - - - - , schnell- - - - - Auto gehört meinem Onkel.

- A) -en / -en B) -e / -en
- C) - e / -e D) -en / -e

13. Ich kann dich - - - - Flughafen fahren.

- A) bei B) vor C) zur D) zum

14. Martin - - - - nicht im Bus.

- A) ist B) bist
- C) sind D) sein

15. Ayşe und Fatma haben neu- - - - - Sportschuhe gekauft.

- A) - B) -e C) -es D) -en

16. Thomas kommt immer zu spät in die Schule.

Wenn er doch nur früher kommen - - - - .

- A) würden B) wäre
- C) waren D) würde


17. Die Kinder, - - - - Eltern das neue Haus gekauft haben, sind in unserer Schule. (Genitiv)

- A) dessen B) denen
- C) deren D) mit den

18. Meine Mutter sagt, ich - - - - sehr gut in tanzen. (Konjunktiv I)

- A) bin B) ist C) bist D) sei

19.



A: Wie spät ist es?

B: Es ist - - - - .

- A) zwanzig nach fünf
- B) zwanzig vor fünf
- C) fünf Uhr
- D) halb fünf

1. OTURUM

20.



Was macht das Mädchen?

- A) Frühstück
- B) Fahrrad fahren
- C) Ein Buch lesen
- D) Musik hören

(500) FRANSIZCA – 6

1 - 18. sorularda boş bırakılan yere uygun gelen kelime veya ifadeyi işaretleyiniz.

1. Le fils de mon frère est mon - - - - .

- A) tante
- B) grand-père
- C) neveu
- D) oncle

2. - - - - buvez deux litres d'eau par jour.

- A) Nous
- B) Elle
- C) Ils
- D) Vous

3. Mehmet est le frère de Nursel. Nursel est - - - - de Mehmet.

- A) la tante
- B) la sœur
- C) la cousine
- D) le beau-fils

4. Hier soir, elles - - - - allées au théâtre.

- A) sont
- B) dont
- C) ont
- D) vont

5. A: Tu es encore fiancé?

B: Non, je suis - - - - depuis deux mois.

- A) ouvrier
- B) jeune
- C) marié
- D) français

6. La mairie est - - - - .

- A) un lieu de travail
- B) un lieu de naissance
- C) un lieu de repos
- D) un lieu de vacances

7. Quand tu prends ta moto, - - - - ton casque.

- A) met
- B) a mis
- C) mettre
- D) mets

8. Sibel, on traverse la rue: - - - - moi la main.

- A) en donnant
- B) donne
- C) donné
- D) donner

9. Le mois dernier, il est allé - - - - une semaine de vacances à Didim.

- A) passer
- B) finir
- C) sortir
- D) écouter

10. Il pleut: - - - - ton parapluie.

- A) sois
- B) est
- C) prends
- D) mangez

11. Nous écoutons de la musique en - - - - du café au lait.

- A) boivent
- B) buvons
- C) boire
- D) buvant

12. En venant, - - - - du fromage blanc.

- A) achète
- B) acheter
- C) a acheté
- D) acheté

13. Pendant ses heures de loisir, Ahmet aime - - - - à la bibliothèque.

- A) comprendre
- B) s'appeler
- C) lire
- D) connaître

14. - - - - Turquie, les enfants ne vont pas - - - - l'école le samedi et le dimanche.

- A) Au / en
- B) En / à
- C) À / en
- D) Aux / au

15. Nous passons à table, - - - - vous les mains!

- A) laver
- B) regardez
- C) travaillez
- D) lavez

16. Ne mangez pas avec - - - - .

- A) le ventre
- B) les doigts
- C) les jambes
- D) le cou

17. Chez tes grands-parents, - - - - sage!

- A) aie
- B) ayons
- C) sois
- D) toi

18. Le petit déjeuner est servi - - - - ma femme.

- A) par
- B) de
- C) des
- D) en

19. Verilen cümlelerin Türkçe dengini işaretleyiniz.

Cette pièce a été mise en scène par Monsieur Işık.

- A) Bay Işık bu oyunu sahneye koyuyor.
- B) Bu oyun Bay Işık tarafından sahneye konuldu.
- C) Bay Işık bu oyunu sahneye koymayacak.
- D) Bu oyun Bay Işık tarafından sahneye konulacak.

20. Verilen cümlelerin Fransızca dengini işaretleyiniz.

Yarın gelmeyiniz, evimde olmayacağım.

- A) Si tu viens dimanche, je serai chez moi.
- B) Ne venez pas demain, je ne vais pas être chez moi!
- C) Ne venez pas aujourd'hui, je vais chez lui!
- D) Demain matin, je vous attends chez moi.

1. OTURUM

(501) İNGİLİZCE – 7

1 - 20. sorularda boş bırakılan yere uygun gelen kelime veya ifadeyi işaretleyiniz.

1. Yunus has bought a new mobile phone. He is very pleased - - - - it.
A) from B) at
C) for D) with
2. My new car is very different - - - - my old car.
A) on B) for
C) from D) with
3. Rize is famous - - - - its tea.
A) of B) for
C) in D) at
4. When I was young, I was afraid - - - - dogs.
A) in B) for
C) with D) of
5. I haven't tasted Italian food - - - - .
A) yet B) ever
C) never D) already
6. When my friends came to help me, I had - - - - finished all the work.
A) ever B) yet
C) already D) never
7. Aylin studied her lesson - - - - she had washed the dishes.
A) before B) after
C) while D) where
8. Murat had finished his project - - - - he went out.
A) before B) after
C) while D) as soon as

9. We need to learn English - - - - have a good job.
A) nor B) because
C) for D) in order to
10. I couldn't see Deniz anywhere. Where - - - - she - - - - ?
A) has / being B) have / been
C) has / been D) have / being
11. When I got there, the children - - - - playing in the garden.
A) had been B) have been
C) will be D) are
12. My mother has never - - - - a foreign country before.
A) visit B) visits
C) visited D) visiting
13. Your hands are dirty. What have you been - - - - ?
A) do B) did
C) done D) doing
14. My father had - - - - me some money before I left home.
A) giving B) given
C) gave D) give
15. Ali: "We may go to the party."
Ali said that they - - - - go to the party.
A) might B) would
C) could D) had to
16. Özlem: "I'm going to fly to Antalya tomorrow."
Özlem said that she was going to fly to Antalya - - - - .
A) the following week
B) the previous month
C) the year before
D) the next day

17. When they went home, it was empty. - - - - .
A) Somebody had robbed them
B) I had done a serious mistake
C) Our car had broken down suddenly
D) We had known each other for years
18. Tom was out of breath. - - - - .
A) He is washing the car
B) He had been running
C) He has been swimming
D) He will be playing football
19. Serhat: "I've seen this film before."
Serhat said that - - - - .
A) he had seen that film before
B) he was going to see a new film
C) he would see that film with friends
D) he could see the film at the cinema
20. Cem: "Where will you go at the weekend?"
Cem asked me - - - - .
A) how much money I could spend for the gift
B) how many lessons I had got that semester
C) what I had done the previous day
D) where I would go at the weekend

(501) ALMANCA – 7

1 - 16. sorularda boş bırakılan yere uygun gelen kelime ya da ifadeyi işaretleyiniz.

1. Die Großmutter hat - - - - über den Besuch gefreut.
A) sie B) sich
C) euch D) ihr

1. OTURUM

2. Mit ---- hast du dich getroffen?

- A) wer B) wie C) wo D) wem

3. Ich ---- einen Brief.

- A) schreibe B) male
C) laufe D) komme

4. Ich gehe schlafen, ---- ich müde bin.

- A) aber B) weil
C) denn D) was

5. Orangen und Äpfel sind ----.

- A) Getränke B) Gemüse
C) Salat D) Obst

6. ---- Fußballmannschaft ist deine Lieblingsmannschaft?

- A) Welche B) Welcher
C) Welches D) Welchen

7. Sie sagt, ---- sie mich liebt.

- A) denn B) dass
C) weil D) aber

8. Du ---- deine Kleider waschen.

- A) sollt B) sollen
C) sollst D) soll

9. Hasan will keine Hausaufgaben ----.

- A) machen B) machte
C) mache D) gemacht

10. ----, Heute, Morgen

- A) Übermorgen
B) Gestern
C) Vorgestern
D) Jetzt

11. Kayseri ist ---- groß ---- Eskişehir.

- A) wie /so B) als /wie
C) so / wie D) wie /als

12. Ali ---- die Prüfung bestanden. (Perfekt)

- A) habe B) hast
C) haben D) hat

13. Ayşe : Petra! ---- habt ihr in Deutschland Sommerferien?

Petra : Ende Juli.

- A) Wann B) Wo
C) Wie D) Warum

14. Ahmet und Markus wollen gerne Computer ----.

- A) spiele B) spielt
C) spielen D) gespielt

15. Ich mache Kaffee. Zuerst ---- ich das Wasser.

- A) gekocht B) schneide
C) koche D) geben

16.



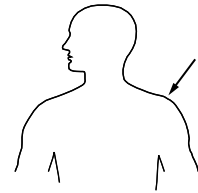
Der Polizist stehtdem Auto und der Mann dem Polizist.

- A) über / unter
B) auf / im
C) an / zwischen
D) vor / neben

17. Aşağıdakilerden hangisi fiildir?

- A) träumen B) lecker
C) müde D) laut

18.




Welches Körperteil ist das?

- A) Finger B) Arm
C) Bein D) Schulter

19. Aşağıdakilerden hangisi sıfattır? (Adjektiv)

- A) schneiden B) lustig
C) reparieren D) arbeiten

20.



Was ist das?

- A) Klavier B) Trommel
C) Geige D) Gitarre

(501) FRANZIZCA – 7

1 - 18. sorularda boş bırakılan yere uygun gelen kelime veya ifadeyi işaretleyiniz.

1. ---- attendent le métro avec des copains.

- A) Nous B) Vous
C) Ils D) Il

2. Il fait froid, ---- le taxi.

- A) descend B) prends
C) descendu D) pris

1. OTURUM

3. **A: Pourquoi Thomas n'est pas venu au café?**
B: - - - - il est allé chez le médecin.
- A) Parce que(qu')
B) Quand
C) Comment
D) Chez qui
4. **Le supermarché - - - - à 22 heures.**
- A) mange B) cherche
C) traverse D) ferme
5. **- - - - du régime pour ne pas grossir.**
- A) Allez B) Fais
C) Donne D) Nage
6. **Selda ne sort - - - - le dimanche, elle préfère rester à la maison.**
- A) souvent B) personne
C) jamais D) rien
7. **A: Léa écrit souvent à Marc et Zoé?**
B: Non, elle - - - - écrit parfois.
- A) leur B) lui C) la D) le
8. **A: Tu connais cet homme?**
B: Oui, je - - - - connais.
- A) leur B) lui
C) la D) le
9. **Ahmet - - - - le verre sur sa veste bleue.**
- A) a été versé B) as versé
C) est versé D) a versé
10. **Nous allons - - - - quand nous voulons acheter des billets.**
- A) à la pâtisserie
B) au guichet
C) à la pharmacie
D) au marché

11. **J'ai rencontré tes frères à la cantine et je - - - - ai parlé.**
- A) lui B) le
C) leur D) les
12. **Ils - - - - de bonnes vacances à Ayvalık.**
- A) sommes passés
B) avons passé
C) sont passées
D) ont passé
13. **Kerem adore le thé. Il va souvent - - - -.**
- A) à la charcuterie
B) à l'épicerie
C) au marché
D) au café
14. **Pour avoir un permis de conduire, il devra suivre des cours dans - - - -.**
- A) un défilé de mode
B) une école primaire
C) une auto-école
D) une école maternelle
15. **Je vous présente Tahsin - - - - est mon ami d'enfance.**
- A) dont B) qui
C) où D) que
16. **Il n'a pas fait ses devoirs, car - - - - un match de basket à la télé.**
- A) il y avait B) il faisait froid
C) c'était D) il pleuvait
17. **A : J'écoute de la musique.**
B : Pardon, qu'est-ce que tu dis ?
A : Je dis que (qu') - - - -.
- A) il écoute mon CD
B) j'écoute de la musique
C) elle va écouter son CD
D) j'ai écouté de la musique

18. **Marc : J'ai dix-neuf ans.**
Şule : Pardon, qu'est-ce qu'il dit?
Rémi : Il dit que (qu') - - - -.
- A) il aura dix ans
B) elle aura neuf ans
C) il a dix-neuf ans
D) elle a dix-neuf ans

19 - 20. sorularda verilen resme göre doğru ifadenin bulunduğu seçeneği işaretleyiniz.

19.



Elle est - - - -.

- A) gaie B) optimiste
C) souriante D) énervée

20.



Il a - - - - et il porte - - - -.

- A) de la barbe / des lunettes
B) une moustache / des lunettes
C) de belles dents / une casquette
D) les cheveux longs / des boucles d'oreilles

1. OTURUM

(533) HZ. MUHAMMED'İN HAY. – 3

1. Arap kabilelerinin yasak aylarda yaptığı savaşlara ne isim verilirdi?

- A) Ficar Savaşları
- B) Kabile Savaşları
- C) Gazve
- D) Cihat

2. İslam öncesi Arabistan Yarımadasındaki sosyal yapı ile ilgili verilen bilgilerden hangisi doğrudur?

- A) Kanun karşısında herkes eşit sayılırdı.
- B) Halkın çoğunluğu Haniflerden oluşmaktaydı.
- C) Cömertlik, ahde vefa ve misafirperverliğe önem verilirdi.
- D) Kız çocukları övünç kaynağı olarak görülürdü.

3. Hz. Peygamberin "Allah bana ondan daha hayırlısını vermedi. Halk bana inanmazken o inandı. Herkes bana yalancı derken o doğru söylediğimi kabul etti. Kimse bana bir şey vermezken o beni malıyla destekledi ..." sözüyle kastettiği eşi aşağıdakilerden hangisidir?

- A) Hz. Ümmü Habibe
- B) Hz. Sevde
- C) Hz. Aişe
- D) Hz. Hatice

4. İslam tarihinde inancından dolayı şehit edilen ilk Müslüman erkek aşağıdakilerden hangisidir?

- A) Hz. Hamza
- B) Hz. Cafer
- C) Hz. Abdullah b. Revâha
- D) Hz. Yasir

5. "(Ey Muhammed!) Sana emrolunanı açıkça bildir ve Allah'a ortak koşanlara aldırış etme."
(Hicr suresi, 94. ayet)

Bu ayetin indirilmesi ile başlayan dönem aşağıdakilerden hangisidir?

- A) Açık davet dönemi
- B) Gizli davet dönemi
- C) Medine dönemi
- D) Boykot dönemi

6. Aşağıdaki hadislerden hangisi konu yönüyle diğerlerinden farklıdır?

- A) İnsanın duaları içinde Allah'ın en sevdiği şey, sağlıklı olma isteğidir.
- B) İki nimet vardır ki insanların çoğu bunlardan habersizdir. Bunlar sağlık ve boş vakittir.
- C) Söz ve davranışlarında ileri gidip haddi aşanlar helak oldular.
- D) Allah'tan mağfiret ve sağlık dileyin. Çünkü bir kimseye imandan sonra sağlıktan daha hayırlı bir şey verilmemiştir.

7. "Böylece sizin dengeli ve ölçülü bir toplu olmanızı istedik..."
(Bakara suresi, 143. ayet)

Bu ayette aşağıdakilerden hangisi vurgulanmaktadır?

- A) Toplumsal hayat vazgeçilmezdir.
- B) Yiyeceklerde aşırılığa kaçılmamalıdır.
- C) Maddiyatta dengeli olunmalıdır.
- D) Hayatın her alanında orta yol tutulmalıdır.

8. Başkalarının sahip olduğu mal, makam ve ilim gibi kıymetleri kaybetmesini ve bu kişilerin zelim duruma düşmesini istemeye ne ad verilir?

- A) Kibir
- B) Haset
- C) Gıpta
- D) Empati

9. Hz. Muhammed (sav.), peygamberliğini ilan ettikten sonra, müşrikler, O'na farklı ithamlarda bulunmuşlardır.

Aşağıdakilerden hangisi bunlardan biri değildir?

- A) Şair
- B) Sihirbaz
- C) Yalancı
- D) Kâhin

10. Aşağıdakilerden hangisi Haniflerin özelliklerinden biridir?

- A) Putlara taparlardı.
- B) Okuma yazma bilmezlerdi.
- C) Kız çocuklarına değer verirdi.
- D) Kölelerden oluşurlardı.

11. I. Ranuna Vadisi'nde kılınan ilk Cuma namazı
II. Medine Sözleşmesi'nin imzalanması
III. Hudeybiye Antlaşması'nın yapılması
IV. Peygamberin Taif ziyareti

Verilen olayların kronolojik sıralaması aşağıdakilerin hangisidir?

- A) III, I, II, IV
- B) IV, I, II, III
- C) I, II, IV, III
- D) II, III, I, IV

12. "Eli sıkı olma; büsbütün eli açık da olma, sonra kınanır, (kaybettiklerinin) hasretini çeker durursun."
(İsrâ suresi, 29. ayet)

Bu ayette vurgulanan davranış aşağıdakilerden hangisidir?

- A) İktisat
- B) Hoşgörü
- C) Merhamet
- D) Yardımlaşma

13. "Her doğan, fitrat üzerine doğar. Sonra anne - babası onu Hristiyan, Yahudi veya Mecusi yapar."

Bu hadiste aşağıdakilerden hangisi vurgulanmaktadır?

- A) İnsan iradesinin bağımsızlığı
- B) Ailenin inanç üzerindeki etkisi
- C) Allah'ın takdirinin sınırı olmadığı
- D) İnsanın kaderinin değiştirilemeyeceği

1. OTURUM

14. "Müminin durumu gıpta ve hayranlığa değer. Çünkü onun her hâli kendisi için bir hayır sebebidir. Böylesi bir özellik sadece müminde vardır. Sevinecek olsa şükreder, bu onun için hayır olur. Başına bir sıkıntı gelecek olsa sabreder, bu da onun için bir hayır olur."

Bu hadiste aşağıdakilerden hangisi vurgulanmaktadır?

- A) Nimete şükretmek, belaya sabretmek gerekir.
- B) Allah'tan bela değil iyilik istenmelidir.
- C) Mümin her yaptığından sorumludur.
- D) Mümin günah işlemez.

15. "Allah gökyüzünü yükseltti ve ölçüyü koydu. Öyleyse sakın taşkınlık edip ölçüyü bozmayın."
(Rahmân suresi, 7 - 8. ayetler)

Bu ayette "ölçü" kelimesi ile aşağıdakilerden hangisine işaret edilmiştir?

- A) İbadetlerdeki dengeye
- B) Duygulardaki aşırılığa
- C) Düşüncedeki tutarlılığa
- D) Evrendeki uyuma

16. **Peygamberimiz vefat ettiğinde, cenazesini yıkayıp kefenleyen sahabe aşağıdakilerden hangisidir?**

- A) Hz. Ömer
- B) Hz. Osman
- C) Hz. Ebubekir
- D) Hz. Ali

17. **Müslüman komutanlarından Hz. Zeyd bin Harise, Hz. Cafer bin Ebi Talip ve Hz. Abdullah bin Revaha'nın şehit olduğu, Bizans ile yapılan ilk savaş aşağıdakilerden hangisidir?**

- A) Uhut savaşı
- B) Mûte savaşı
- C) Hayber savaşı
- D) Huneyn savaşı

18. **Mekkeli müşriklerin Hz. Muhammed (sav.)'i öldürme kararını aldıkları yer aşağıdakilerden hangisidir?**

- A) Kâbe
- B) Dâru'l-Erkam
- C) Dâr'un-Nedve
- D) Akabe

19. **Peygamber Efendimiz İslam'ı tebliğ etmeye ilk olarak aşağıdakilerden hangisinden başlamıştır?**

- A) Köle ve cariyelerden
- B) Akraba ve yakınlarından
- C) Çevre kabile reislerinden
- D) Mekke'nin ileri gelenlerinden

20. **Hz. Peygamberin de üyesi olduğu Hilfu'l Fudul cemiyetinin kuruluş amacı aşağıdakilerden hangisidir?**

- A) Kâbe'nin korunması ve bakımını sağlamak
- B) Kabilelerin birbirleriyle savaşmalarını önlemek
- C) Haksızlığa uğrayan kimselerin hakkını savunmak
- D) Mekke'ye gelen misafirlerin ihtiyaçlarını karşılamak

(534) HZ. MUHAMMED'İN HAY. – 4

1. Hz. Peygamber Yemen'de yaşayan Necran Hristiyanlarını mes-citte karşılamış ve görüş alışverişinde bulunduktan sonra, onların ibadetlerini Mescid-i Nebevide yapmalarına müsaade etmiştir.

Peygamberimizin bu tutumu O'nun hangi özelliğine örnektir?

- A) Adalete olan bağlılığına
- B) İstişareye verdiği öneme
- C) İnsanlara olan merhametine
- D) İbadet özgürlüğüne olan saygısına

2. Hz. Muhammed (sav.) hayatının her döneminde çalışmış ve çalışmayı da teşvik etmiştir. Herkesin hayatının idamesi için çalışmasına müsaade edilmesini ve emeğinin karşılığının verilmesini istemiştir.

Bu metinde Hz. Muhammed (sav.)'in temel hak olarak gördüğü konu aşağıdakilerden hangisidir?

- A) Ekonomik Özgürlük
- B) Seyahat Özgürlüğü
- C) İnanç Özgürlüğü
- D) İfade Özgürlüğü

3. **Aşağıda verilen ayetlerden hangisi konusu itibariyle diğerlerinden farklıdır?**

- A) "İnsan, kendisinin başıboş bırakılacağını mı sanır?" (Kıyamet suresi, 36. ayet)
- B) "De ki: Hakikat Rabb'inizdendir. Artık dileyen inansın, dileyen inkâr etsin..." (Kehf suresi, 29. ayet)
- C) "Dinde zorlama yoktur, artık hak ile batıl birbirinden iyice ayrılmıştır..." (Bakara suresi, 256. ayet)
- D) "Şüphesiz biz ona doğru yolu gösterdik. İster şükredici olsun ister nankör." (İnsan suresi, 3. ayet)

4. **Düşünce ve ifade özgürlüğü aşağıdaki kavramlardan hangisiyle daha çok ilgilidir?**

- A) Sabır
- B) İstişare
- C) Tefekkür
- D) Diğerkâmlık

5. "O müminler öyle kimselerdir ki eğer kendilerine yeryüzünde bir iktidar verirsek namazı dosdoğru kılarlar, zekâtı verirler, marufu (iyi ve güzel şeyleri) emrederler, münkerden (kötü ve çirkin olan şeylerden) vazgeçirmeye çalışırlar..."
(Hac suresi, 41. ayet)

Bu ayette yöneticilerin sahip olması gereken özelliklerden hangisine değinilmemiştir?

- A) Liyakate önem verme
- B) İbadetleri yerine getirme
- C) İnsanları doğruluğa sevk etme
- D) Kötülüğe engel olmaya çalışma

1. OTURUM

6. Bir defasında Peygamber Efendimiz Hz. Ali'ye şöyle dedi: "Sana iki kişi muhakeme olmak için geldiğinde hiçbir zaman ikisini de dinlemeden karar verme. Çünkü doğruyu bulmak her ikisini de dinlediğinde mümkündür."

Bu metinde aşağıdakilerden hangisi vurgulanmıştır?

- A) Adaletli olmak
B) İstişare etmek
C) Liyakate önem vermek
D) Birlik ve beraberliği sağlamak

7. Hz. Muhammed (sav.), aşağıdaki olaylardan hangisiyle farklı inanç gruplarının hak ve özgürlüklerini güvence altına almıştır?

- A) Veda Hutbesi
B) Kâbe Hakemliği
C) Medine Sözleşmesi
D) Hudeybiye Antlaşması

8. "Muhakkak ki Allah, adaleti, iyiliği, akrabaya yardım etmeyi emreder; çirkin işleri, fenalık ve azgınlığı da yasaklar. O, düşünüp tutasınız diye size öğüt verir."

(Nahl suresi, 90. ayet)

Bu ayette aşağıdakilerden hangisine değinilmemiştir?

- A) Yakınları gözetmeye
B) Namazı vaktinde kılmaya
C) Kötülüklerden uzak durmaya
D) Hak ve hukuka uygun davranmaya

9. • Peygamberimiz ilk vahyi öncelikli olarak eşi Hz. Hatice ile paylaşmıştı.
• Peygamberimiz kızı Fatma'yı evlendirmeden önce onun görüşünü almıştı.
• Peygamberimiz Medine döneminde Hz. Ayşe ile yarış yapmıştı.

Peygamberimiz ile ilgili bu bilgilerden çıkarılacak en kapsamlı sonuç aşağıdakilerden hangisidir?

- A) İlk eşi Hz. Hatice'dir.
B) Spor yapmayı tavsiye etmiştir.
C) Kızı Fatma'yı rızasını alarak evlendirmiştir.
D) Kadınlara zaman ayırmış ve onların görüşlerine değer vermiştir.

10. Ebu Zer, Peygamberimizden kendisini yönetici olarak atamasını isteyince Peygamberimiz Ebu Zer'e şöyle dedi: "Ben, seni idarecilik için zayıf görüyorum. Ben, kendim için sevip istediğimi senin için de sevip isterim. Ama yöneticilik bir emanettir. Bu emanetin hakkını veremeyenler kıyamette zillet ve pişmanlığa uğrarlar. Ancak onu hakkıyla elde edip kendine düşen sorumluluğu yerine getiren kimse, bunun dışındadır."

Bu olayda aşağıdakilerden hangisi vurgulanmıştır?

- A) İdareciliğin gelip geçici olduğu
B) Yöneticilikte liyakatin önemli olduğu
C) Herkesin idarecilik yapma hakkına sahip olduğu
D) Kendisi için istenenin arkadaşı için de istenmesi gerektiği

11. Aşağıdaki hadislerden hangisi kadınların ilme teşvik edilmesi ile ilgilidir?

- A) "Sizin en hayırlınız eşlerine karşı en iyi davrananınızdır."
B) "Eşlerini döven erkeklerde hayır yoktur."
C) "Hiçbir mümin, hanımına kin beslemesin..."
D) "Kadınları Allah'ın mescitlerinden engellemeyiniz..."

12. "Erkek olsun, kadın olsun, her kim de mümin olarak, iyi işler yaparsa, işte onlar cennete girerler ve zerre kadar haksızlığa uğratılmazlar."

(Nisâ suresi, 124. ayet)

Bu ayetin konusu aşağıdakilerden hangisidir?

- A) Kullukta eşitlik
B) Yaratılıştaki eşitlik
C) Kadın ve erkek ilişkileri
D) Kadının konumu ve değeri

13. Aşağıdakilerden hangisi İslam devletinin ilk anayasası kabul edilmektedir?

- A) Hudeybiye Anlaşması
B) Medine Sözleşmesi
C) Veda Hutbesi
D) Akabe Biatı

14. Halkın yöneticisine bağlılığını bildirmesi ve hukuktan ayrılmadığı sürece ona itaat edeceğine dair söz vermesidir.

Tanımı yapılan kavram aşağıdakilerden hangisidir?

- A) Antlaşma B) Şura
C) Adalet D) Biat

15. Peygamber Efendimiz ne zaman seferden dönse önce kızı Hz. Fatıma'nın evine uğrayıp onun hâl ve hatırını sorardı. Seferde çıkarken de en son onunla vedalaşır. Kızı, yanına geldiğinde çok sevinir, ayağa kalkar, elini tutarak alından öpüp yanına oturturdu.

Bu metinden Hz. Muhammed (sav.) ile ilgili aşağıdakilerden hangisi çıkarılamaz?

- A) Ehl-i Bey'tine önem verir, onları ihmal etmezdi.
B) Kızlarını, erkek çocuklarından daha çok severdi.
C) Çocuklarını takdir eder, onlara şefkat gösterirdi.
D) Aile içi ilişkilerde sorumlu, ölçülü ve nezaketli davranırdı.

16. Aşağıdaki ayetlerden hangisi inanç ve ibadet özgürlüğü ile ilgili değildir?

- A) "Dinde zorlama yoktur, artık hak ile batıl iyice ayrılmıştır..." (Bakara suresi, 256. ayet)
B) "De ki hakikat Rabb'inizdir. Artık dileyen inansın, dileyen inkâr etsin..." (Kehf suresi, 29. ayet)
C) "Ey iman edenler! Allah'ın ve Peygamberin önüne geçmeyin. Allah'a karşı gelmekten sakının..." (Hucurât suresi, 1. ayet)
D) "Sen öğüt ver çünkü sen ancak öğüt vericisin. Onların üzerine zorlayıcı değilsin." (Ğâşiye suresi, 21-22. ayetler)

1. OTURUM

(608) DEMOKRASİ ve İNS. HAK. – 2

17. “Ey insanlar! Doğrusu biz sizi bir erkekle bir dişiden yarattık. Ve birbirinizle tanışmanız için sizi kavimlere ve kabilelere ayırdık. Allah katında en değerli olanınız, Allah’a karşı gelmekten en çok sakınanınızdır...”
(Hucurât suresi, 13. ayet)

Bu ayetten aşağıdakilerden hangisi çıkarılmaz?

- A) Kullukta insanların eşit olduğu
B) Kadının ve erkeğin yaratılışta eşit olduğu
C) İnsanların birbirleri ile iletişime teşvik edildiği
D) Allah katında üstünlüğün takvaya bağlı olduğu

18. “Bir Müslümanın izinsiz olarak bir başkasının evinin içini gözetmesi helal değildir. Böyle yapan, günah işlemiş olur.”

Bu hadiste aşağıdakilerden hangisi vurgulanmıştır?

- A) Düşünce ve ifade özgürlüğü
B) Özel yaşamın gizliliği
C) Seyahat etme özgürlüğü
D) İnanç ve ibadet özgürlüğü

19. I. Kadının rolü sadece annelik yapmaktır.
II. Kadınlara hoşgörölü ve anlayışlı davranmak tavsiye edilmiştir.
III. Kadınların namazlarını camide cemaatle kılması yasaklanmıştır.
IV. Temel hak ve özgürlüklerde kadın ve erkek eşittir.

İslam’a göre bu ifadelerden hangileri doğrudur?

- A) I ve II. B) I ve III.
C) II ve IV. D) III ve IV.

20. **Aşağıdakilerden hangisi Peygamber Efendimizin yönetim ilkelerinden biri değildir?**

- A) İstişare etme
B) Halkın yönetime katılımını sağlama
C) Ehliyet ve liyakate öncelik verme
D) Din birliğini sağlama

1. • Yasaların yasama, yürütme, yargı organlarını bağlaması
• Devlet erklerinin birbirlerinin alanına müdahale etmemesi
• Yargının hür ve bağımsız olması

Yukarıda verilenler demokrasinin hangi ilkesinin gereklerindendir?

- A) Laiklik
B) Hukukun üstünlüğü
C) Seçimler ve temsil
D) Çoğulculuk ve katılım

2. **Padişahın yetkilerini tek taraflı olarak kısıtlayacağına dair söz vermesinden kaynaklanan, Müslümanlarla gayrimüslimlere eşit haklar sağlayan, 1839’da Abdülmecit zamanında hazırlanan belge aşağıdakilerden hangisidir?**

- A) Nizam-ı Cedit
B) Sened-i İttifak
C) İslahat Fermanı
D) Gülhane Hattı Hümayunu

3. Toplumumuzda kadın erkek eşitliğini sağlayacak düzenlemeler yapan kanunların varlığına rağmen kadın erkek eşitsizliği görülmeye devam etmektedir.

Bu durum insan haklarının gerçekleştirilmesinde karşılaşılan aşağıdaki sorunların öncelikle hangisinden kaynaklanmaktadır?

- A) Devletin ekonomik imkanlarının yetersiz olması
B) Yöneticilerin kendi güçlerini arttırmak istemeleri
C) Toplumda yanlış töre ve geleneklerin devam etmesi
D) Kamu düzeni ve temel haklar arasındaki dengenin kurulamaması

4. **Aşağıdakilerden hangisi Birleşmiş Milletler Örgütü bünyesinde yer almaz?**

- A) Avrupa Birliği
B) İnsan Hakları Komitesi
C) İşkenceye Karşı Komite
D) İrk Ayrımcılığının Kaldırılması Komitesi

5. **Aşağıda verilen Avrupa İnsan Hakları Mahkemesiyle ilgili bilgilerden hangisi doğrudur?**

- A) Mahkemeye başvuru için hiçbir şart yoktur.
B) Aday devletlerden seçilen yargıçlar görev alır.
C) Mahkemenin yaptırımını tazminat ödenmesi şeklindedir.
D) İç hukuk yolları tüketilmeden de mahkemeye başvuru yapılabilir.

6. **Aşağıdakilerden hangisi, insan haklarını korumak için faaliyet gösteren uluslararası sivil toplum örgütlerinden biridir?**

- A) Avrupa Birliği
B) Avrupa Konseyi
C) Uluslararası Af Örgütü
D) Avrupa İnsan Hakları Mahkemesi

7. **Aşağıdakilerden hangisi, insan haklarının korunmasına engel oluşturur?**

- A) Savaşlar
B) Terörle uluslararası düzeyde mücadele edilmesi
C) Bölgeler arası kalkınmışlık farklarının giderilmesi
D) Hızlı toplumsal değişimin olumsuz etkilerinin önlenmesi

8. **Auguste Comte göre, insanlarn olayları gerçeküstü bir takım olgularla açıklamaya çalıştıkları, her şeyde büyü, tılsımlı taraf olarak gördükleri evre aşağıdakilerden hangisidir?**

- A) Teknolojik evre
B) Teolojik evre
C) Pozitif evre
D) Metafizik evre

9. **Bir ülkede belli bir dönemde geçerli olan kuralların zorla ve köklü bir değişikliğe tabi tutularak yerine yenilerinin getirilmesi aşağıdaki kavramlardan hangisiyle ifade edilir?**

- A) Reform
B) Devrim
C) Çağdaşlaşma
D) Aydınlanma

1. OTURUM

10. I. Başkasına zarar veren düşünce ve davranışların özgürlük olamayacağı
II. Düşünce ve vicdan hürriyetinin engellenmesi
III. Egemenliğin halka ait olması
IV. Baskıcı yönetim anlayışı
- Yukarıda verilenlerden hangileri Atatürk'ün demokrasi ve insan hakları konusundaki görüşlerindedir?**

A) I ve II. B) II ve III.
C) II ve IV. D) I ve III.

11. **Din, mezhep, etnik köken, asalet, servet, makam vb. gözetilmeksizin kişilerin yasalar karşısında farklı muamele görmemesi aşağıdaki kavramlardan hangisiyle ifade edilir?**

A) Hak B) Eşitlik
C) Ödev D) Özgürlük

12. I. Hümanizm düşüncesi
II. Doğal haklar anlayışı
III. Kuvvetler ayrılığı prensibi

Yukarıdakilerden hangileri insan hakları düşüncesinin gelişmesinde etkili olmuştur?

A) I ve II. B) I ve III.
C) II ve III. D) I, II ve III.

13. **Aşağıdakilerden hangisi kişinin siyasal gücün kullanılmasına katılmasını sağlayan haklardan dır?**

A) Seçme ve seçilme hakkı
B) Kişi dokunulmazlığı hakkı
C) Eğitim ve öğrenim hakkı
D) Dinlenme hakkı

14. **Modern devlette, devletin örgütlenmesi aşağıdakilerden hangisiyle gerçekleşir?**

A) Gelenekler
B) Görenekler
C) Pozitif hukuk
D) Töreler

15. • Kanun önünde eşitlik
• Mahkemelerin bağımsızlığı
• İdarenin yargısal denetimi

Verilenler öncelikle aşağıdakilerden hangisinin gereğidir?

A) Hukuk devletinin
B) Polis devletinin
C) Sosyal devletin
D) Laik devletin

16. **“Kuvvetler ayrımı” kavramının açıklaması aşağıdakilerden hangisidir?**

A) Vatandaşlarına hukuki güvenceler sağlayan devlet sistemi
B) İnsan haklarına saygılı olma, kişi hak ve özgürlüklerini koruma
C) Yasama, yürütme, yargı organlarının birbirinden bağımsız olması
D) Kişilerin yasalar karşısında eşit muamele görmesi

17. **Aşağıdakilerden hangisi TBMM'nin idare üzerindeki denetim yollarından biri değildir?**

A) Meclis araştırması
B) Özel görüşme
C) Gensoru
D) Soru

18. **Kelime anlamı “halk iktidarı” olan sözcük aşağıdakilerden hangisidir?**

A) Demokrasi B) Hümanizm
C) Rönesans D) İmparatorluk

19. **Çağdaş toplumlarda halkın doğrudan ülke yönetimine katılması mümkün olmadığından vatandaşların, seçimler yoluyla ve seçilen milletvekilleri aracılığıyla ülke yönetimine belli ölçüde katılmaları sağlanır.**

Yapılan açıklama aşağıdakilerden hangisiyle ilgilidir?

A) Çoğulculuk
B) Temsili demokrasi
C) Hukukun üstünlüğü
D) Bireysel özgürlük

20. **Aşağıdakilerden hangisi, siyasi partilerin işlevlerinden biri değildir?**

A) Ülkeyi yönetecek lider kadroları eğitmek
B) İktidarı eleştirmek ve denetlemek
C) Halk ile iktidar arasında aracılık yapmak
D) Beklentileri gerçekleştirilmeyen çevrelerdeki huzursuzluğu artırmak

(611) KARŞ. DİN. TAR. – 1

1. **Mecusilik olarak adlandırılan din aşağıdakilerden hangisidir?**

A) Taoizm B) Zerdüştlük
C) Caynizm D) Şintoizm

2. **Aşağıdakilerden hangisi İslam'dan önce ortaya çıkan dinlerden biri değildir?**

A) Konfüçyanizm
B) Hinduizm
C) Budizm
D) Sihizm

3. **Hz. İsa ile ilgili Müslümanlar ve Hristiyanlar arasındaki ortak inanç aşağıdakilerden hangisidir?**

A) Allah'ın kulu ve resulüdür.
B) İnsanoğlunu asli günahattan kurtarmıştır.
C) Hz. Meryem'den doğmuştur.
D) Çarmıh hadisesinde ölüp sonra dirilmiştir.

4. **Aşağıdakilerden hangisi Hinduizm'e ait bir kavramdır?**

A) Kast B) Dhamma
C) Haoma D) Tao Te King

5. **Aşağıdakilerden hangisi Firavun ile ilgili Kur'an-ı Kerim'de verilen bilgilerden biri değildir?**

A) Hz. Musa ile mücadele etmiştir.
B) Allah'ın gazabı ile helak olmuştur.
C) Kendisini Rab ilan eden azgın bir şahıstır.
D) Ölüm anındaki imanı Allah tarafından kabul edilmiştir.

1. OTURUM

6. “Andolsun ki İsrailoğulları’ndan sağlam söz aldık ve onlara peygamberler gönderdik. Ne zaman bir peygamber onlara nefislerinin arzu etmediğini (ilahi hükümleri) getirdiyse onlardan bir kısmını yalanladılar, bir kısmını da öldürdüler.”
(Mâide suresi, 70. ayet)

Bu ayette Yahudilerle ilgili aşağıdakilerden hangisi anlatılmaktadır?

- A) Haddi aşmaları sebebiyle üzerlerine ağır yükümlülüklerin konulduğu
B) Allah’ın tavsiyelerine kulak tıkayıp, heveslerine göre hareket ettikleri
C) Bereketli topraklara vâris kılınmalarına rağmen nankörlük ettikleri
D) Kendilerini seçkin kabul edip diğer milletleri hor gördükleri

7. İslam’a göre, aşağıdaki bilgilerden hangisi doğrudur?

- A) Boşanma kabul edilemez.
B) İbadet bireyin tüm hayatını kapsamaz.
C) Seçilmişlik ve ruhbanlık kabul edilemez.
D) Peygamberler beşer kabul edilemez.

8. Yoga ve meditasyon aşağıdaki dinlerden hangisinde önemli bir kavramdır?

- A) Budizm B) Sihizm
C) Zerdüştlük D) Yahudilik

9. • 16. yüzyılda katolikliğin uygulamalarına tepki göstermesiyle tanınmış bir Alman din adamıdır.
• Katolik Kilisesi’nin cezalandırıcı tanrı anlayışını eleştirmiş, tanrının rahmet anlayışının gözardı edildiğini ifade etmiştir.
• Papanın yanılmazlığını, kutsal kitap ve ibadet dilinin Latince olmasını eleştirmiştir.

Hakkında bilgi verilen din adamı aşağıdakilerden hangisidir?

- A) Pavlus
B) Barnabas
C) Aziz Petrus
D) Martin Luther

10. Hinduizm’de doğum-ölüm gir-dabı ve bu sürecin sebep ol-duğu her türlü acı ve kederden kurtulup mutlak aydınlanmaya kavuşmak anlamına gelen terim aşağıdakilerden hangisidir?

- A) Kast
B) Tenasüh
C) Nirvana
D) Konfirmasyon

11. Zerdüştlük dini aşağıdaki ülke-lerin hangisinde doğmuştur?

- A) Filistin B) Arabistan
C) Hindistan D) İran

12. “İsrail” aşağıdaki peygamber-lerden hangisinin lakabıdır?

- A) Yahya B) Yakup
C) Davud D) Musa

13. Aşağıdakilerden hangisi Hinduizm’e ait bir özelliktir?

- A) Budizm’den doğmuştur.
B) Ruhun varlığı reddedilir.
C) Sekiz dilimli yol benimsenir.
D) Kast sistemi bir inanç esasıdır.

14. Aşağıdakilerden hangisi Hristiyan inançlarından olan “Vaftiz”i ifade eder?

- A) Evlenen çiftler için kilisede ya-pılan törendir.
B) Şükretmek anlamına gelen bir ayindir.
C) Hristiyanlığa giren kişinin kutsal suyla günahattan arındırılmasıdır.
D) Hastalıkta ve özellikle ölüm anında kişiyi rahatlatmak için yapılan bir ayindir.

15. İslam’a göre aşağıdakilerden hangisi doğrudur?

- A) Allah’a eş koşmak en büyük günahdır.
B) Araplar diğer insanlardan daha üstündür.
C) Din adamları Allah ile kul ara-sında aracıdır.
D) Kur’an-ı Kerim’in mesajları gönderildiği bölge ile sınırlıdır.

16. Kabile dinlerinde, dini ayin ve törenlerle meşgul olan ve ruh-lar âlemiyle iletişim kurduğuna inanılan kişilere ne isim verilir?

- A) Tao B) Guru
C) Rahip D) Şaman

17. İslam âlimleri dini tanımlarken aşağıdaki ifadelerden hangisi-ne yer vermezler?

- A) İnsanları hayırlı işlere sevk et-meyi hedeflediğine
B) Kaynağının peygamberler ol-duğuna
C) Akıl sahiplerini muhatap aldı-ğına
D) Vahye dayalı olduğuna

18. Kudüs’ü fethedip orayı başkent yapan peygamber hangisidir?

- A) Hz. Davut B) Hz. Musa
C) Hz. İbrahim D) Hz. Süleyman

19. “... ‘Ey İsrail oğulları! Şüphesiz ben, Allah’ın size, benden önce gelen Tevrat’ı doğrulayıcı ve ben-den sonra gelecek, Ahmed adın-da bir peygamberi müjdeleyici olarak gönderdiği peygamberiyim’ demişti...” (Saff suresi, 6. Ayet)

Bu ayette İsrailoğullarına hitap eden peygamber hangisidir?

- A) Hz. İsa B) Hz. Musa
C) Hz. Davut D) Hz. Muhammed

- 20. • Hz. Musa’dan sekiz asır sonra Tevrat’ı yeniden yazmıştır.
• Yahudi tarihinde mabedi ikinci kez inşa eden kişi olarak kabul edilir.
• Yahudiler kendisini peygamber kabul etmemelerine rağmen ona peygamberden öte bir saygı gösterirler.**

Hakkında bilgi verilen kişi aşağıdakilerden hangisidir?

- A) Lokman B) Ezra
C) Zulkarneyn D) Hâman

1. OTURUM

(612) KARŞ. DİN. TAR. – 2

1. İslam kültüründe kutsal kabul edilen gün ve gecelerden hangisi Kuran-ı Kerim’de ismen zikredilmiştir?

- A) Berat B) Kadir
C) Regaip D) Mevlit

2. • Benares’i ziyaret etmek
• Ganj Nehri’nde yıkanmak

Verilen bilgiler hangi dine ait hac ibadetini anlatmaktadır?

- A) Yahudilik B) Konfüçyanizm
C) Zerdüştlük D) Hinduizm

3. • “Müslüman, diğer insanların elinden ve dilinden emin olduğu kimsedir.” (İslam)
• “İnsanların sana nasıl davranmasını istiyorsan sen de onlara öyle davran.” (Hristiyanlık)
• “Sana kötü gelen şeyleri arkadaşlarına yapma...” (Yahudilik)

Yukarıdaki cümleler dinlerdeki hangi ortak ahlaki özelliği anlatmaktadır?

- A) Temizlik
B) Büyüklere saygı
C) Başkalarına zarar vermemek
D) Şefkat ve merhametli olmak

4. “Gata”, “Tripitaka” ve “Veda” terimleri kullanıldıkları dinlerde neyi ifade etmektedir?

- A) Tanrı inancını
B) Mehdi-Mesih inancını
C) Ahiret inancını
D) Kutsal kitapları

5. • Haftalık ibadet günü pazardır.
• Din adamları önünde günah çıkarma inancı vardır.
• Evharistiya ayini en önemli ibadetlerden biri kabul edilir.

Hakkında bilgi verilen din aşağıdakilerden hangisidir?

- A) Yahudilik B) Hristiyanlık
C) İslam D) Hinduizm

6. • İnsan neslinin devamını tehdit etmesi
• İffet ve namus değerlerini yok etmesi
• Aile kurumuna zarar vermesi

Yukarıda bahsedilen sebeplerle birçok dinde yasaklanan davranış hangisidir?

- A) Hırsızlık
B) Yalan söyleme
C) Adam kayırmak
D) Zina yapmak

7. İslam dininde sadaka ile ilgili aşağıda verilen bilgilerden hangisi yanlıştır?

- A) Sadece zenginlerin yapması gereken bir iyilik değildir.
B) Sadece para ile yapılan bir ibadet olarak kabul edilmez.
C) Açıkta verilmesi gizli verilmesinden daha iyi görülmüştür.
D) Veren kişinin alan kişiden karşılık beklemediği bir ibadettir.

8. Bir anlamda Tanah’ın tefsiri olan, Yahudi hahamlarının nesilden nesile aktardıkları sözlü rivayetlerin tümüne ne denir?

- A) Talmut
B) Yeni Ahit
C) Eski Ahit
D) Mezmurlar (Zebur)

9. Budistlerin en önemli hac merkezi aşağıdakilerden hangisidir?

- A) İse B) Efes
C) Bodhi Gaya D) Ganj Nehri

10. Müslümanların farz olan hac ibadeti esnasında Kurban Bayramı’nın birinci günü şeytan taşıladıkları yer aşağıdakilerden hangisidir?

- A) Mina B) Müzdelife
C) Arafat D) Mikat

11. Hristiyanlıkta, Hz. İsa’nın öldükten sonra dirilişi anısına kutlanan bayram aşağıdakilerden hangisidir?

- A) Noel B) Paskalya
C) Fışh D) Sukkot

12. Matta, Markos, Luka ve Yuhanna aşağıdakilerden hangisiyle ilişkilidir?

- A) Eski Ahit B) Tora
C) Yeni Ahit D) Talmut

13. • Çocukluğu ve gençliğinin bir dönemi Firavunun sarayında geçti.
• Mısır’ı terk etti, Medyen’de Hz. Şuayb ile görüştü ve onun kızıyla evlendi.
• Sina Dağı’nda Rabb’inden vahiy aldı.

Yukarıda hakkında bilgi verilen peygamber kimdir?

- A) Hz. Musa
B) Hz. Davut
C) Hz. İbrahim
D) Hz. Süleyman

14. • 15 yaşında kendimi öğrenmeye verdim.
• 30 yaşında irademe sahip olabildim.
• 40 yaşında şüphelerden uzaklaştım.
• 50 yaşında göğün emrini öğrendim.

Kendisi hakkında yukarıdaki bilgileri veren din kurucusu kimdir?

- A) Hz. İsa B) Konfüçyüs
C) Zerdüş D) Mahavira

15. Üç ilahi dinin de (Yahudilik, Hristiyanlık, İslam) kutsal kabul ettiği mekân aşağıdakilerden hangisidir?

- A) Kudüs B) Mekke
C) Roma D) Efes

1. OTURUM

(811) KELAM – 1

16. “Allah’ın sana verdiği şeylerde ahiret yurdunu ara. Dünyadan da nasibini unutma...” (Kasas suresi, 77. ayet)

Verilen ayette aşağıdaki konulardan hangisi vurgulanmaktadır?

- A) Tevhit inancı
B) Yaratılışın gayesi
C) İbadetlerin önemi
D) Dünya ve ahiret dengesi

17. Bu dinin rahipleri hayatları boyunca bitkisel besinlerle beslenirler. Ancak soğan ve sarımsak yemezler. Kuşluk veya zeval vaktinde olmak üzere günde sadece bir öğün yemek yiyebilirler. Arka arkaya kırk gün perhiz yaparlar.

Bir nevi oruç sayılabilecek olan bu ibadetler hangi dine aittir?

- A) Hristiyanlık B) Yahudilik
C) Caynizm D) Sihizm

18. Aşağıdaki surelerin hangisinde tevhit konusu net bir şekilde işlenmektedir?

- A) İhlâs B) Fatıha
C) Kureyş D) Kâfirun

19. Aşağıdakilerden hangisi misyonerlerin kullandıkları yöntemlerden biri değildir?

- A) Kilise evleri açmak
B) Özel okullar aracılığıyla eğitim vermek
C) Konuşmalarında sevgiyi ön plana çıkarmak
D) Tarihi cami ve medreselere gezi turları düzenlemek

20. • Monoteist bir dindir.
• Hinduizm ve İslam’ın senteziyle ortaya çıkmıştır.
• Tanrı, “Nam”, “Rama” ve “Allah” diye isimlendirilir.

Hakkında bilgi verilen din hangisidir?

- A) Sihizm B) Budizm
C) Caynizm D) Yahudilik

1. “Bütün Müslümanlar mümin, bütün müminler de Müslümandır.”

Verilen cümle Mürcie’nin aşağıdaki görüşlerinden hangisiyle ilişkilidir?

- A) İmanda artma ve eksilme
B) İman-İslam ilişkisi
C) İmanda istisna
D) Va’d ve Va’id

2. Aşağıdakilerden hangisi Matüridi mezhebine ait bir görüştür?

- A) Amel imandan bir cüz değildir.
B) Allah’ı bilmek dinen vaciptir.
C) İnsan, fiillerinin yaratıcısıdır.
D) İman artar ve eksilir.

3. Aşağıdakilerden hangisi fıkhi mezheplerden biridir?

- A) Eş’arilik B) Caferilik
C) Mürcie D) Mutezile

4. “Dört Kapı Kırk Makam” kavramı aşağıdaki tasavvufi yorumlardan hangisine aittir?

- A) Yesevîlik
B) Mevlevîlik
C) Nakşibendilik
D) Alevilik - Bektaşîlik

5. Musahipliğin amacı aşağıdakilerden hangisidir?

- A) Ehli Beyt’e düşmanlık yapanları tanımak
B) Hz. Muhammed’in ailesine duyulan sevgiyi artırmak
C) Yardımlaşmanın geliştirilmesi ve kibrin kırılmasını sağlamak
D) Allah’a yakarışın yolunu öğretmek

6. Aşağıdakilerden hangisi Hanefi mezhebi imamlarından biri değildir?

- A) Ebu Yusuf
B) İbn-i Teymiye
C) Numan b. Sabit
D) İmam Muhammed

7. Aşağıdaki mezheplerden hangileri, ameli imanın bir parçası saymışlardır?

- A) Havariç-Mutezile
B) Mürcie-Eş’ariye
C) Maturidiye-Mürcie
D) Maturidiye-Eş’ariye

8. Aşağıdakilerden hangisi iman-amel ilişkisiyle ilgili Ehli Sünnet âlimlerinin görüşlerinden biri değildir?

- A) Ameller imanın bir parçası değildir.
B) Büyük günah sahibi, mümin değildir.
C) Amel imanın bir meyvesi ve sonucudur.
D) İman, insanı doğru ve hayırlı işler yapmaya yönlendirir.

9. “O ki birbiri ile ahenkli yedi göğü yaratmıştır. Çok merhametli olan Allah’ın yaratışında hiçbir uygunsuzluk göremezsin...”
(Mülk suresi, 3. ayet)

Bu ayet aşağıdaki delillerden daha çok hangisine örnek oluşturur?

- A) İmkân B) Kemal
C) Temanu’ D) Gaye ve nizam

10. Aşağıdakilerden hangisi Allah’ın “birliği”ni ifade eden delillerdendir?

- A) Temanu’ B) İmkân
C) Kemal D) Hudus

11. Akıl yolu ve kesin dini deliller kullanılarak, İslam ile ilgili meydana gelebilecek şüpheleri giderip dini akideleri ispat etmeye ve İslam itikadını ortaya koymaya çalışır.

Hakkında bilgi verilen ilim dalı aşağıdakilerden hangisidir?

- A) Fıkıh B) Hadis
C) Kelam D) Felsefe

12. Aşağıdakilerden hangisi kelam âlimlerine göre bilginin kaynaklarından biri değildir?

- A) Akıl B) Vahiy
C) Duyular D) Tahmin

1. OTURUM

13. Aşağıdakilerden hangisi kelim ilminin doğuşunu hazırlayan nedenlerden biri değildir?

- A) Kur'an-ı Kerim'in çoğaltılması
- B) İslam'ın insanlara tanıdığı fikir hürriyeti
- C) Müslümanlar arasında ortaya çıkan iç savaşlar
- D) İslam düşüncesinin felsefeyle yakınlık kurması

14. Kelamcılara göre bütün insanlarda ortak olan akli bilgilere "bedîhî bilgiler" denir. Bu tür bilgi duyu veya haberle ya da düşünerek elde edilmeyip, bilinmesi akılla apaçık olarak meydana gelen bilgidir.

Verilen açıklamaya göre aşağıdakilerden hangisi bedîhî bilgi olamaz?

- A) Varlık vardır.
- B) Bütün parçasından büyüktür.
- C) Her peygamber Allah'tan vahiy alır.
- D) İki zıttın bir arada bulunması imkânsızdır.

15. Kelam ilminin gelişmesi üç devre halinde olmuştur. Üçüncü devre, mantık ilminin İslami ilimler arasına dâhil edilmesiyle ve Gazali'nin düşünceleriyle şekillenmiştir. Bu devreden sonra gelen kelam âlimlerine - - - - denmiştir.

Verilen açıklamada boş bırakılan yere aşağıdakilerden hangisi getirilmelidir?

- A) müfessir
- B) muhaddis
- C) müteahhirin
- D) mütekaddimin

16. Kelam ilminde "Allah - âlem" ilişkisi incelenirken "âlem" in tarifi nasıl yapılır?

- A) Tüm canlılar ve yeryüzü
- B) Allah'ın dışındaki her şey
- C) Allah ile beraber bütün evren
- D) Dünyada yaşayan insanların tümü

17. Aşağıdakilerden hangisi bilginin iman üzerindeki etkisini göstermez?

- A) Taklidi imandan tahkiki imana ulaşabilme
- B) Neye, niçin ve neden inandığını öğrenebilme
- C) Batıl inanç ve hurafelerden uzak durabilme
- D) Her söylenilene doğru kabul etme

18. • Allah'ı bilmek aklen vaciptir.
• Hz. Peygamber kimseyi halife tayin etmemiştir.
• İnsanın fillerini yaratan Allah'tır.
• Amel imandan bir cüz değildir.

Bu görüşler aşağıdaki mezheplerden hangisine aittir?

- A) Maturidiye
- B) Mutezile
- C) Hariciye
- D) Şia

19. Kelamcılara göre aşağıdaki bilgilerden hangisi yanlıştır?

- A) Âlemi oluşturan varlıklar "mümkün"dür.
- B) Duyu organlarıyla elde edilen bilgiler insanları asla yanıltmaz.
- C) Salim akıl İslam'a ve insan fıtratına uygundur.
- D) Vahyi bilgi akli bilgiyle çelişmez.

20. Aşağıdakilerden hangisi mezheplerin ortaya çıkışında etkili olan sebeplerden biri olarak görülmez?

- A) Muhkem ayetler
- B) Siyasi hadiseler
- C) Ortam ve kültür
- D) Müteşabih ayetler

(812) KELAM – 2

1. Hristiyanlara göre "Kitabı Mukaddes" aşağıdaki kutsal kitaplardan hangilerinin bir arada toplanmasından oluşmuştur?

- A) İncil ve Tevrat
- B) İncil ve Zebur
- C) Kur'an, İncil ve Tevrat
- D) Tevrat, Zebur ve İncil

2. Kur'an-ı Kerim hangi halife döneminde çoğaltılmıştır?

- A) Hz. Ali
- B) Hz. Osman
- C) Hz. Ebubekir
- D) Hz. Ömer

3. "Kitabını oku! Bugün sana hesap sorucu olarak kendi nefsin yeter." (İsrâ suresi, 14. ayet)

Bu ayette geçen "kitap" kelimesi ile aşağıdakilerden hangisi kastedilmektedir?

- A) Kur'an-ı Kerim
- B) Levh-i Mahfuz
- C) Amel defteri
- D) Mizan

4. "Kimlerin tartısı ağır basarsa, işte asıl kurtuluşa erenler onlardır. Kimlerin de tartısı hafif gelirse, artık bunlar da kendilerine yazık etmişlerdir..." (Mü'min suresi, 102-103. ayetler)

Verilen ayette aşağıdakilerden hangisi anlatılmaktadır?

- A) Mahşer
- B) Sırat
- C) Ba's
- D) Mizan

5. Ahiret inancına sahip bir kişiden aşağıdaki davranışlardan hangisini yapması beklenmez?

- A) İbadetlerini hakkıyla yerine getirmeye çalışır.
- B) Boşa yaratılmadığı bilinci ile hareket eder.
- C) İnsani ilişkilerini menfaat üzerine kurar.
- D) İlişkilerinde adaleti ön planda tutar.

6. Aşağıdakilerden hangisi "cüz-i irade" kapsamındadır?

- A) Anne-baba seçimi
- B) İnanç tercihi
- C) Cinsiyet
- D) İrk

1. OTURUM

7. "Ba'sü ba'de'l-mevt" ifadesinin anlamı aşağıdakilerden hangisidir?

- A) Mahşer meydanında toplanma
- B) İsrail'in birinci kez sûr'a üflemesi
- C) Ölümden sonra tekrar diriltirme
- D) Sevap ve günahların tartılması

8. • İnsan hür bir iradeye sahip değildir.
• Kul, Allah'ın takdir ettiği fiilleri yapmak zorundadır.

Bu görüşler aşağıdaki mezheplerden hangisine aittir?

- A) Mutezile
- B) Selefiyye
- C) Cebriye
- D) Maturidiye

9. Sezgi gücü ile Tanrı'ya ve eşyanın özü ile ilgili bilgiye ulaşabileceğini savunan akım aşağıdakilerden hangisidir?

- A) Mistisizm
- B) Politeizm
- C) Deizm
- D) Agnostisizm

10. Aşağıdaki felsefi görüşlerden hangisi Allah'ı, ruhu ve ahiret hayatını inkâr edip evrenin tesadüfen meydana geldiği görüşünü savunur?

- A) Nihilizm
- B) Ateizm
- C) Satanizm
- D) Deizm

11. "...Peygamber göndermedikçe (kimseye) azap edecek değiliz." (İsra suresi, 15. ayet)

Verilen ayetten aşağıdakilerden hangisine ulaşamaz?

- A) Peygamberlerin birer uyarıcı olduklarına
- B) Peygamber göndermenin Allah'ın takdirinde olduğuna
- C) İlahi emirlere uymayanların cezalandırılacaklarına
- D) Bütün peygamberlere ilahi kitap verildiğine

12. Peygamberlerin ismet sıfatlarına bir eksiklik getirmeyen ve günah sayılmayan hatalarına ne denir?

- A) İhsan
- B) Zelle
- C) İstidrac
- D) Kezb

13. Peygamberlerin üstün zekâ ve kavrayış gücüne sahip olma özelliğine ----, Allah'tan aldıkları vahyi olduğu gibi insanlara ulaştırmasına ---- denir.

Metinde boş bırakılan yerlere aşağıdakilerden hangileri getirilmelidir?

- A) fetanet - emanet
- B) sıdk - tebliğ
- C) ismet - sıdk
- D) fetanet - tebliğ

14. Mucize ile ilgili aşağıda verilen bilgilerden hangisi yanlıştır?

- A) Sadece resul olan peygamberlere verilmiştir.
- B) Tabiat kanunlarına aykırı olağanüstü olaylardır.
- C) Allah'ın izni ve peygamberlerin eliyle gerçekleşmiştir.
- D) Bir peygambere verilen mucize diğerine verilmemiştir.

15. Peygamberlere gönderilen suhurlar toplam kaç sayfadır?

- A) 50
- B) 70
- C) 90
- D) 100

16. • İnsanın iki ayrı eceli vardır.
• Helal yoldan kazanılmayan şey rızık değildir.
• Hastalık veya kazayla insan ömrü uzayıp kısalabilir.

Bu görüşler aşağıdaki itikadi mezheplerden hangisine aittir?

- A) Eşari
- B) Maturidi
- C) Mu'tezile
- D) Mürcie

17. Aşağıdakilerden hangisi yeni ilmi kelamın ele aldığı konulardan biri değildir?

- A) Kur'an-ı Kerim'in ibadetler ile ilgili hükümlerini açıklamak
- B) Materyalizmin Allah'ın varlığı hakkındaki iddialarına cevap vermek
- C) İnanç esaslarını akıl ve bilgi ile temellendirmenin yollarını göstermek
- D) Görülmeyen varlıkları, duyu-larla algılanamayan varlıklarla izah etmek

18. "Tanrı'nın varlığını ve O'nun âlemin ilk sebebi olduğunu kabul etmekle beraber, Tanrının âlemin işleyişine müdahale etmediğini kabul eden felsefi ekol" **aşağıdakilerden hangisidir?**

- A) Politeizm
- B) Mistisizm
- C) Deizm
- D) Pozitivizm

19. Aşağıdakilerden hangisi **Agnostisizm (bilinemezlik) felsefi akımının düşüncelerinden biri değildir?**

- A) Hiçbir bilgi kesin değildir.
- B) Akıl âlemin ilk ve son sebeplerini kavrayabilir.
- C) Tanrı vardır ya da yoktur denilemez.
- D) İnsan aklının ve zihninin reel değeri yoktur.

20. • Şeytan kutsal bir varlık olarak görülür.
• Her türlü düzene başkaldırmak ilkelerindedir.
• Şeytan için kurban verme gibi gelenekleri vardır.

Hakkında bilgi verilen inanç akımı aşağıdakilerden hangisidir?

- A) Satanizm
- B) Ateizm
- C) Nihilizm
- D) Mistisizm

**TEST BİTTİ.
CEVAPLARINIZI KONTROL EDİNİZ.**

CEVAP KÂĞIDI VE SORU KİTAPÇIĞI İLE İLGİLİ AÇIKLAMALAR

1. Cevap kâğıdınızdaki bilgilerin doğruluğunu kontrol ediniz ve cevap kâğıdınızı mürekkepli kalemle imzalayınız.
2. Cevap kâğıdı üzerinde kodlamalarınızı siyah kurşun kalemle yapınız.
3. Değiştirmek istediğiniz bir cevabı, yumuşak silgiyle cevap kâğıdını örselemeden temizce siliniz ve yeni cevabınızı kodlayınız.
4. Soru kitapçığının sayfalarını görevlilerin uyarıları doğrultusunda kontrol ediniz, baskı hatası var ise değiştirilmesini sağlayınız.
5. Soruların çözümü için size ayrıca boş kâğıt verilmeyecektir. Soru kitapçığının içindeki boş alanları soru çözümleri için kullanabilirsiniz.
6. Her sorunun dört seçeneğinden sadece biri doğrudur. Doğru seçeneği, cevap kâğıdınızın ilgili sütununa soru numarasını dikkate alarak yuvarlağın dışına taşırmadan kodlayınız. Soru kitapçığı üzerinde yapılan cevaplandırmalar dikkate alınmayacaktır.
7. Cevaplamaya istediğiniz dersin sorusundan başlayabilirsiniz. Cevabını bilmediğiniz sorular üzerinde fazla zaman kaybetmeden diğer sorulara geçiniz. Zamanınız kalırsa bu sorulara daha sonra dönebilirsiniz.
8. Yanlış cevaplarınız dikkate alınmadan sadece doğru cevaplarınız üzerinden puanlama yapılacaktır.
9. Soruları ve sorulara verdiğiniz cevapları, yanınızda götürmek amacıyla kaydetmeyiniz; hiçbir şekilde dışarı çıkarmayınız.
10. Sınav bitiminde soru kitapçığı ve cevap kâğıdını salon görevlilerine teslim ediniz.

SALON GÖREVLİLERİNCE SINAV BAŞLAMADAN ÖNCE ADAYLARA YAPILACAK SON UYARILAR

- Soracağınız bir şey varsa şimdi sorunuz, sınav başladıktan sonra sorularınıza cevap verilmeyecektir.
- Başlama zilini bekleyiniz.

Hepinize başarılar dileriz.

(Salon başkanı başlama ve bitiş saatini tahtaya yazacaktır.)

Bu kitapçığın her hakkı saklıdır. Hangi amaçla olursa olsun, kitapçığın tamamının veya bir kısmının Millî Eğitim Bakanlığı Ölçme, Değerlendirme ve Sınav Hizmetleri Genel Müdürlüğünün yazılı izni olmadan kopya edilmesi, fotoğraflarının çekilmesi, bilgisayar ortamına alınması, herhangi bir yolla çoğaltılması, yayımlanması veya başka bir amaçla kullanılması yasaktır. Bu yasağa uymayanlar, doğabilecek cezai sorumluluğu ve kitapçığın hazırlanmasındaki mali külfeti peşinen kabullenmiş sayılır.

11 ARALIK 2016 TARİHİNDE YAPILAN AÇIKÖĞRETİM LİSESİ / MESLEKİ AÇIKÖĞRETİM LİSESİ
2015-2016 ÖĞRETİM YILI EK SINAVI 1. OTURUM T KİTAPÇIĞI CEVAP ANAHTARI

(115) DİN KÜL. AHL. BİL. – 5

1. B
2. D
3. A
4. B
5. C
6. D
7. C
8. B
9. A
10. A
11. D
12. A
13. B
14. A
15. C
16. D
17. D
18. C
19. C
20. B

(117) DİN KÜL. AHL. BİL. – 7

1. C
2. D
3. B
4. D
5. C
6. B
7. C
8. C
9. D
10. A
11. A
12. B
13. B
14. C
15. B
16. D
17. C
18. D
19. A
20. A

(121) FELSEFE – 1

1. A
2. B
3. C
4. D
5. C
6. A
7. B
8. C
9. A
10. B
11. D
12. A
13. B
14. C
15. A
16. D
17. A
18. B
19. D
20. B

(131) TARİH – 1

1. C
2. D
3. A
4. D
5. C
6. B
7. B
8. D
9. A
10. C
11. B
12. C
13. B
14. A
15. D
16. C
17. D
18. A
19. C
20. B

(116) DİN KÜL. AHL. BİL. – 6

1. D
2. D
3. C
4. B
5. A
6. D
7. B
8. A
9. A
10. C
11. A
12. B
13. D
14. D
15. C
16. B
17. C
18. B
19. D
20. A

(118) DİN KÜL. AHL. BİL. – 8

1. C
2. B
3. A
4. D
5. A
6. C
7. B
8. D
9. A
10. B
11. A
12. C
13. C
14. D
15. D
16. C
17. D
18. B
19. A
20. C

(122) FELSEFE – 2

1. D
2. C
3. B
4. A
5. B
6. C
7. A
8. B
9. D
10. B
11. B
12. A
13. A
14. B
15. C
16. D
17. B
18. D
19. C
20. A

(132) TARİH – 2

1. C
2. D
3. B
4. C
5. D
6. B
7. D
8. B
9. C
10. A
11. D
12. A
13. B
14. C
15. A
16. B
17. C
18. A
19. C
20. D

11 ARALIK 2016 TARİHİNDE YAPILAN AÇIKÖĞRETİM LİSESİ / MESLEKİ AÇIKÖĞRETİM LİSESİ
2015-2016 ÖĞRETİM YILI EK SINAVI 1. OTURUM T KİTAPÇIĞI CEVAP ANAHTARI

(133) TARİH – 3

1. D
2. C
3. B
4. D
5. C
6. A
7. A
8. C
9. C
10. B
11. A
12. D
13. A
14. B
15. C
16. B
17. D
18. B
19. D
20. A

(135) TARİH – 5

1. A
2. D
3. B
4. C
5. D
6. C
7. D
8. C
9. D
10. A
11. B
12. C
13. D
14. B
15. A
16. A
17. C
18. B
19. C
20. D

(141) T.C. İNK. TAR. ATA. – 1

1. B
2. A
3. D
4. B
5. C
6. D
7. D
8. A
9. B
10. A
11. C
12. D
13. B
14. D
15. B
16. C
17. A
18. C
19. D
20. B

(153) COĞRAFYA – 3

1. B
2. D
3. D
4. C
5. B
6. A
7. A
8. C
9. B
10. D
11. A
12. D
13. C
14. C
15. A
16. C
17. B
18. D
19. A
20. A

(134) TARİH – 4

1. D
2. C
3. B
4. D
5. A
6. B
7. D
8. C
9. B
10. C
11. A
12. D
13. A
14. B
15. A
16. D
17. C
18. B
19. D
20. A

(136) TARİH – 6

1. C
2. B
3. A
4. B
5. C
6. D
7. D
8. B
9. B
10. C
11. D
12. A
13. D
14. A
15. C
16. C
17. D
18. B
19. A
20. C

(142) T.C. İNK. TAR. ATA. – 2

1. C
2. A
3. B
4. A
5. C
6. B
7. C
8. A
9. C
10. D
11. C
12. A
13. D
14. B
15. B
16. A
17. C
18. D
19. B
20. D

(154) COĞRAFYA – 4

1. D
2. A
3. A
4. B
5. B
6. D
7. C
8. A
9. C
10. B
11. D
12. B
13. D
14. C
15. B
16. D
17. C
18. B
19. A
20. A

11 ARALIK 2016 TARİHİNDE YAPILAN AÇIKÖĞRETİM LİSESİ / MESLEKİ AÇIKÖĞRETİM LİSESİ
2015-2016 ÖĞRETİM YILI EK SINAVI 1. OTURUM T KİTAPÇIĞI CEVAP ANAHTARI

(163) MATEMATİK – 3

1. D
2. A
3. C
4. A
5. B
6. D
7. C
8. D
9. A
10. B
11. B
12. C
13. A
14. D
15. A
16. D
17. B
18. D
19. C
20. B

(206) PSİKOLOJİ – 1

1. C
2. A
3. D
4. B
5. C
6. A
7. D
8. A
9. D
10. C
11. A
12. C
13. D
14. B
15. D
16. C
17. B
18. A
19. C
20. D

(242) İNGİLİZCE – 3

1. C
2. B
3. C
4. A
5. D
6. A
7. B
8. D
9. B
10. C
11. D
12. B
13. A
14. D
15. C
16. D
17. A
18. B
19. D
20. A

(242) FRANSIZCA – 3

1. B
2. A
3. C
4. D
5. A
6. B
7. D
8. C
9. D
10. C
11. A
12. D
13. B
14. B
15. C
16. A
17. D
18. B
19. A
20. C

(164) MATEMATİK – 4

1. A
2. B
3. C
4. D
5. C
6. A
7. A
8. D
9. B
10. A
11. A
12. C
13. C
14. B
15. C
16. D
17. D
18. B
19. A
20. D

(209) SOSYOLOJİ – 2

1. A
2. B
3. C
4. D
5. B
6. C
7. A
8. D
9. C
10. A
11. D
12. A
13. C
14. B
15. C
16. A
17. D
18. B
19. D
20. A

(242) ALMANCA – 3

1. A
2. C
3. B
4. D
5. B
6. C
7. D
8. B
9. D
10. B
11. A
12. D
13. C
14. A
15. C
16. B
17. A
18. C
19. D
20. A

(243) İNGİLİZCE – 4

1. C
2. D
3. B
4. A
5. C
6. A
7. B
8. D
9. B
10. A
11. B
12. C
13. D
14. D
15. B
16. C
17. B
18. A
19. D
20. A

11 ARALIK 2016 TARİHİNDE YAPILAN AÇIKÖĞRETİM LİSESİ / MESLEKİ AÇIKÖĞRETİM LİSESİ
2015-2016 ÖĞRETİM YILI EK SINAVI 1. OTURUM T KİTAPÇIĞI CEVAP ANAHTARI

(243) ALMANCA – 4

1. D
2. B
3. A
4. B
5. D
6. A
7. C
8. B
9. C
10. A
11. D
12. B
13. A
14. C
15. C
16. D
17. A
18. C
19. B
20. D

(244) İNGİLİZCE – 5

1. A
2. C
3. A
4. D
5. B
6. C
7. D
8. A
9. C
10. B
11. C
12. B
13. B
14. D
15. A
16. C
17. D
18. A
19. B
20. C

(244) FRANSIZCA – 5

1. A
2. B
3. C
4. B
5. C
6. D
7. A
8. B
9. D
10. C
11. B
12. A
13. C
14. D
15. A
16. C
17. B
18. B
19. A
20. D

(404) DİL VE ANLATIM – 4

1. B
2. C
3. C
4. A
5. D
6. C
7. B
8. A
9. A
10. D
11. C
12. B
13. A
14. B
15. A
16. A
17. C
18. B
19. B
20. D

(243) FRANSIZCA – 4

1. D
2. C
3. B
4. A
5. B
6. A
7. C
8. D
9. A
10. C
11. D
12. C
13. B
14. C
15. B
16. A
17. D
18. C
19. A
20. D

(244) ALMANCA – 5

1. A
2. B
3. C
4. C
5. D
6. B
7. A
8. D
9. C
10. B
11. D
12. D
13. A
14. B
15. A
16. B
17. C
18. D
19. C
20. A

(403) DİL VE ANLATIM – 3

1. C
2. C
3. B
4. A
5. B
6. D
7. D
8. A
9. A
10. C
11. D
12. B
13. C
14. B
15. A
16. A
17. C
18. B
19. B
20. D

(405) DİL VE ANLATIM – 5

1. C
2. A
3. A
4. C
5. B
6. D
7. D
8. C
9. A
10. B
11. D
12. D
13. B
14. D
15. B
16. B
17. C
18. D
19. C
20. B

02 EKİM 2016 TARİHİNDE YAPILAN AÇIKÖĞRETİM LİSESİ / MESLEKİ AÇIKÖĞRETİM LİSESİ
2015-2016 ÖĞRETİM YILI EK SINAVI 1. OTURUM T KİTAPÇIĞI CEVAP ANAHTARI

(406) DİL VE ANLATIM – 6

1. B
2. A
3. B
4. D
5. C
6. C
7. A
8. D
9. B
10. A
11. C
12. D
13. B
14. C
15. A
16. D
17. C
18. B
19. D
20. A

(413) TÜRK EDEBİYATI – 3

1. B
2. C
3. D
4. A
5. B
6. A
7. D
8. C
9. D
10. D
11. A
12. C
13. B
14. C
15. D
16. B
17. A
18. A
19. B
20. C

(415) TÜRK EDEBİYATI – 5

1. A
2. B
3. C
4. D
5. B
6. C
7. A
8. D
9. A
10. C
11. B
12. D
13. A
14. B
15. B
16. C
17. C
18. D
19. A
20. B

(417) TÜRK EDEBİYATI – 7

1. A
2. B
3. C
4. C
5. D
6. D
7. C
8. B
9. D
10. C
11. A
12. C
13. B
14. B
15. D
16. D
17. A
18. A
19. C
20. D

(407) DİL VE ANLATIM – 7

1. B
2. A
3. D
4. B
5. C
6. B
7. D
8. A
9. A
10. D
11. C
12. A
13. D
14. A
15. A
16. C
17. B
18. C
19. C
20. D

(414) TÜRK EDEBİYATI – 4

1. A
2. B
3. C
4. C
5. D
6. B
7. D
8. D
9. D
10. A
11. A
12. B
13. B
14. C
15. D
16. A
17. D
18. B
19. C
20. C

(416) TÜRK EDEBİYATI – 6

1. C
2. B
3. B
4. D
5. B
6. B
7. C
8. D
9. A
10. A
11. B
12. B
13. A
14. A
15. C
16. D
17. D
18. C
19. A
20. C

(431) KİMYA – 1

1. A
2. C
3. D
4. B
5. A
6. B
7. D
8. C
9. A
10. D
11. D
12. A
13. A
14. C
15. D
16. B
17. C
18. D
19. B
20. A

11 ARALIK 2016 TARİHİNDE YAPILAN AÇIKÖĞRETİM LİSESİ / MESLEKİ AÇIKÖĞRETİM LİSESİ
2015-2016 ÖĞRETİM YILI EK SINAVI 1. OTURUM T KİTAPÇIĞI CEVAP ANAHTARI

(432) KİMYA – 2

1. B
2. C
3. B
4. C
5. B
6. A
7. D
8. C
9. D
10. A
11. A
12. D
13. A
14. B
15. C
16. D
17. B
18. A
19. C
20. D

(442) BİYOLOJİ – 2

1. D
2. B
3. A
4. A
5. D
6. C
7. B
8. B
9. D
10. A
11. C
12. D
13. D
14. B
15. B
16. B
17. C
18. D
19. D
20. B

(465) TEMEL DİNİ BİL. – 1

1. B
2. A
3. B
4. A
5. B
6. A
7. A
8. C
9. D
10. B
11. C
12. D
13. A
14. C
15. C
16. B
17. C
18. D
19. D
20. C

(478) MANTIK – 1

1. C
2. A
3. C
4. B
5. D
6. A
7. B
8. C
9. D
10. A
11. C
12. A
13. D
14. B
15. D
16. C
17. D
18. A
19. B
20. C

(441) BİYOLOJİ – 1

1. A
2. D
3. C
4. B
5. C
6. B
7. B
8. C
9. D
10. B
11. A
12. D
13. C
14. B
15. D
16. A
17. C
18. B
19. D
20. C

(452) Ç. TÜRK ve DÜNYA TAR.– 2

1. B
2. C
3. D
4. A
5. D
6. C
7. C
8. B
9. A
10. B
11. D
12. A
13. C
14. C
15. D
16. C
17. B
18. A
19. D
20. B

(466) TEMEL DİNİ BİL. – 2

1. A
2. D
3. C
4. B
5. A
6. C
7. C
8. A
9. D
10. C
11. B
12. B
13. D
14. C
15. A
16. B
17. A
18. B
19. D
20. D

(483) SAĞLIK BİLGİSİ – 1

1. A
2. D
3. B
4. C
5. B
6. D
7. B
8. A
9. C
10. A
11. B
12. D
13. A
14. C
15. D
16. D
17. A
18. C
19. D
20. B

11 ARALIK 2016 TARİHİNDE YAPILAN AÇIKÖĞRETİM LİSESİ / MESLEKİ AÇIKÖĞRETİM LİSESİ
2015-2016 ÖĞRETİM YILI EK SINAVI 1. OTURUM T KİTAPÇIĞI CEVAP ANAHTARI

(484) SAĞLIK BİLGİSİ – 2

1. A
2. B
3. D
4. C
5. A
6. C
7. A
8. D
9. C
10. B
11. C
12. B
13. A
14. D
15. B
16. A
17. C
18. D
19. B
20. D

(492) TRAF. VE İLK YARD. – 2

1. D
2. B
3. C
4. A
5. C
6. A
7. C
8. B
9. A
10. D
11. C
12. B
13. D
14. A
15. A
16. B
17. C
18. A
19. C
20. D

(500) ALMANCA – 6

1. A
2. B
3. D
4. C
5. A
6. B
7. D
8. B
9. D
10. C
11. B
12. C
13. D
14. A
15. B
16. D
17. C
18. D
19. A
20. C

(501) İNGİLİZCE – 7

1. D
2. C
3. B
4. D
5. A
6. C
7. B
8. A
9. D
10. C
11. A
12. C
13. D
14. B
15. A
16. D
17. A
18. B
19. A
20. D

(491) TRAF. VE İLK YARD. – 1

1. C
2. D
3. B
4. C
5. D
6. A
7. B
8. A
9. C
10. D
11. D
12. B
13. A
14. C
15. A
16. C
17. D
18. C
19. B
20. A

(500) İNGİLİZCE – 6

1. D
2. C
3. B
4. A
5. C
6. D
7. C
8. B
9. D
10. A
11. C
12. B
13. A
14. C
15. B
16. D
17. C
18. B
19. A
20. D

(500) FRANSIZCA – 6

1. C
2. D
3. B
4. A
5. C
6. A
7. D
8. B
9. A
10. C
11. D
12. A
13. C
14. B
15. D
16. B
17. C
18. A
19. B
20. B

(501) ALMANCA – 7

1. B
2. D
3. A
4. B
5. D
6. A
7. B
8. C
9. A
10. B
11. C
12. D
13. A
14. C
15. C
16. D
17. A
18. D
19. B
20. C

11 ARALIK 2016 TARİHİNDE YAPILAN AÇIKÖĞRETİM LİSESİ / MESLEKİ AÇIKÖĞRETİM LİSESİ
2015-2016 ÖĞRETİM YILI EK SINAVI 1. OTURUM T KİTAPÇIĞI CEVAP ANAHTARI

(501) FRANSIZCA – 7

1. C
2. B
3. A
4. D
5. B
6. C
7. A
8. D
9. D
10. B
11. C
12. D
13. D
14. C
15. B
16. A
17. B
18. C
19. D
20. A

(534) HZ. MUHAMMED'İN HAY. – 4

1. D
2. A
3. A
4. B
5. A
6. A
7. C
8. B
9. D
10. B
11. D
12. A
13. B
14. D
15. B
16. C
17. B
18. B
19. C
20. D

(611) KARŞ. DİN. TARİHİ – 1

1. B
2. D
3. C
4. A
5. D
6. B
7. C
8. A
9. D
10. C
11. D
12. B
13. D
14. C
15. A
16. D
17. B
18. A
19. A
20. B

(811) KELAM – 1

1. B
2. A
3. B
4. D
5. C
6. B
7. A
8. B
9. D
10. A
11. C
12. D
13. A
14. C
15. C
16. B
17. D
18. A
19. B
20. A

(533) HZ. MUHAMMED'İN HAY. – 3

1. A
2. C
3. D
4. D
5. A
6. C
7. D
8. B
9. C
10. C
11. B
12. A
13. B
14. A
15. D
16. D
17. B
18. C
19. B
20. C

(608) DEMOKRASİ ve İNS. HAK. – 2

1. B
2. D
3. C
4. A
5. C
6. C
7. A
8. D
9. B
10. D
11. B
12. D
13. A
14. C
15. A
16. C
17. B
18. A
19. B
20. D

(612) KARŞ. DİN. TARİHİ – 2

1. B
2. D
3. C
4. D
5. B
6. D
7. C
8. A
9. C
10. A
11. B
12. C
13. A
14. B
15. A
16. D
17. C
18. A
19. D
20. A

(812) KELAM – 2

1. D
2. B
3. C
4. D
5. C
6. B
7. C
8. C
9. A
10. B
11. D
12. B
13. D
14. A
15. D
16. C
17. A
18. C
19. B
20. A