

OTURUM

3



T.C.
MİLLÎ EĞİTİM BAKANLIĞI
ÖLÇME, DEĞERLENDİRME VE SINAV HİZMETLERİ
GENEL MÜDÜRLÜĞÜ

T

AÇIK ÖĞRETİM LİSESİ / MESLEKİ AÇIK ÖĞRETİM LİSESİ
2015-2016 ÖĞRETİM YILI 3. DÖNEM SINAVI
3. OTURUM: 12 HAZİRAN 2016 Saat: 09.30

<u>DERS KODU VE ADI</u>	<u>SAYFA</u>	<u>DERS KODU VE ADI</u>	<u>SAYFA</u>	<u>DERS KODU VE ADI</u>	<u>SAYFA</u>
(113) DİN KÜL. AHL. BİL. – 3	2	(242) FRANSIZCA – 3	24	(478) MANTIK – 1	48
(114) DİN KÜL. AHL. BİL. – 4	3	(403) DİL VE ANLATIM – 3	25	(500) İNGİLİZCE – 6	49
(116) DİN KÜL. AHL. BİL. – 6	4	(405) DİL VE ANLATIM – 5	27	(500) ALMANCA – 6	50
(122) FELSEFE – 2	6	(406) DİL VE ANLATIM – 6	29	(500) FRANSIZCA – 6	51
(124) SEÇMELİ FELSEFE – 2	7	(413) TÜRK EDEBİYATI – 3	30	(503) SEÇMELİ TARİH – 3	52
(133) TARİH – 3	9	(416) TÜRK EDEBİYATI – 6	32	(504) SEÇMELİ TARİH – 4	53
(134) TARİH – 4	10	(426) FİZİK – 6	33	(505) SEÇMELİ COĞRAFYA – 3	55
(142) T.C. İNK. TAR. ATA. – 2	11	(427) FİZİK – 7	35	(506) SEÇMELİ COĞRAFYA – 4	56
(153) COĞRAFYA – 3	12	(428) FİZİK – 8	37	(533) HZ. MUHAMMED'İN HAY. – 3	57
(154) COĞRAFYA – 4	14	(433) KİMYA – 3	38	(534) HZ. MUHAMMED'İN HAY. – 4	59
(158) COĞRAFYA – 8	15	(434) KİMYA – 4	39	(608) DEM. VE İNSAN HAK. – 2	60
(163) MATEMATİK – 3	16	(435) KİMYA – 5	40	(613) SEÇ. DİL VE ANLA. – 3	62
(165) MATEMATİK – 5	18	(445) BİYOLOJİ – 5	42	(615) SEÇ. DİL VE ANLA. – 5	64
(206) PSİKOLOJİ – 1	19	(448) BİYOLOJİ – 8	43	(616) SEÇ. DİL VE ANLA. – 6	65
(209) SOSYOLOJİ – 2	20	(452) ÇAĞ. TÜRK DÜN. TAR. – 2	45	(623) SEÇ. TÜRK ED. – 3	67
(242) İNGİLİZCE – 3	22	(462) EKONOMİ – 2	46	(626) SEÇ. TÜRK ED. – 6	68
(242) ALMANCA – 3	23	(468) MATEMATİK – 8	47	(975) GİRİŞİMCİLİK – 2	70

ADAYLARIN DİKKATİNE!

- Her ders için **20** soru bulunmaktadır. Bu oturumda **180** dakikalık cevaplama süreniz vardır. Sınav başladıktan sonra ilk **30** dakika dolmadan dışarı çıkmayınız.
- Sınav sırasında sözlük, hesap cetveli veya makinesi, çağrı cihazı, cep telefonu, telsiz, radyo gibi elektronik iletişim araçlarını yanınızda bulundurmuyunuz. Bu araçları kullanmanız ve kopya çekmeye teşebbüs etmeniz hâlinde sınavınız geçersiz sayılacaktır.
- Başvuru şartlarını taşımadığınız hâlde sınava girmeniz, kopya çekmeniz, başka adayın sınav evrakını kullanmanız, geçerli kimlik belgenizi ve sınav giriş belgenizi ibraz edemediğiniz durumlarda sınavınız geçersiz sayılacaktır.
- Sınavın değerlendirilmesi aşamasında, kopya tespiti hâlinde sınavınız geçersiz sayılacaktır.

CEVAP KÂĞIDI VE SORU KİTAPÇIĞI İLE İLGİLİ AÇIKLAMALAR

- Cevap kâğıdınızdaki bilgilerin doğruluğunu kontrol ediniz ve cevap kâğıdınızı mürekkepli kalemle imzalayınız.
- Cevap kâğıdı üzerinde kodlamalarınızı kurşun kalemle yapınız.
- Değiştirmek istediğiniz bir cevabı, yumuşak silgiyle cevap kâğıdını örselemeden temizce siliniz ve yeni cevabınızı kodlayınız.
- Soru kitapçığının sayfalarını kontrol ediniz, baskı hatası var ise değiştirilmesini sağlayınız.
- Soruların çözümü için size ayrıca boş kâğıt verilmeyecektir. Soru kitapçığının içindeki boş alanları soru çözümleri için kullanabilirsiniz.
- Her sorunun dört seçeneğinden sadece biri doğrudur. Doğru seçeneği, cevap kâğıdınızın ilgili sütununa soru numarasını dikkate alarak yuvarlağın dışına taşırmadan kodlayınız. **Soru kitapçığı üzerinde yapılan cevaplandırmalar dikkate alınmayacaktır.**
- Cevaplamaya istediğiniz dersin sorusundan başlayabilirsiniz. Cevabını bilmediğiniz sorular üzerinde fazla zaman kaybetmeden diğer sorulara geçiniz. Zamanınız kalırsa bu sorulara daha sonra dönebilirsiniz.
- Yanlış cevaplarınız dikkate alınmadan sadece doğru cevaplarınız üzerinden puanlama yapılacaktır.
- Soruları ve sorulara verdiğiniz cevapları, yanınızda götürmek amacıyla kaydetmeyiniz; hiçbir şekilde dışarı çıkarmayınız.
- Sınav bitiminde, soru kitapçığı ve cevap kâğıdını salon görevlilerine teslim ediniz.**

BAŞLAYINIZ DENİLMEDEN SORU KİTAPÇIĞINI AÇMAYINIZ.

3. OTURUM

(113) DİN KÜL. AHL. BİL. – 3

1. Hasan Bey, bir resim sergisinde gördüğü tablonun güzelliği karşısında hayranlığını gizleyemez ve "Bunu yapan ressam ne kadar yetenekli bir sanatçıymış." diyerek takdirlerini dile getirir.

Dünyadaki düzene ve tabiattaki güzelliklere bakan bir Müslümanın Hasan Bey'in yorumuna göre aşağıdakilerden hangisini söylemesi doğru olur?

- A) Bu güzelliklerin kendiliğinden meydana gelmesi ne kadar da ilginç.
B) Bu mükemmel düzeni ve güzellikleri var eden yaratıcı ne kadar yücedir.
C) Tesadüf eseri bu düzenin meydana gelmesi hayranlık verici.
D) Bu güzelliklerin sonsuza dek var olacağını bilmek insana yaşama arzusu veriyor.

2. İslam dininin temelini oluşturan "Allah'ın varlığı ve birliği" inancı aşağıdakilerden hangisiyle ifade edilir?

- A) İhsan B) Tevhit
C) Takva D) Tevekkül

3. "O, sizi (önce) topraktan, sonra az bir sudan, sonra 'alaka'dan yaratan, sonra sizi anne karnından çocuk olarak çıkaran, sonra olgunluk çağına ulaşmanız, sonra da ihtiyarlamanız için yaşatandır... (Mü'min suresi, 67. ayet)

Bu ayette Allah'ın sıfatlarından hangisi vurgulanmaktadır?

- A) Tekvin B) Kıdem
C) Basar D) Bekâ

4. Aşağıdakilerden hangisi dua etmenin kişiye sağladığı faydalardan biri değildir?

- A) Gönüllere ferahlık hissi vermesi
B) İsteklerin gerçekleşeceği ümidini artırması
C) Bunalımlara karşı koruyucu bir sağlık tedbiri olması
D) Kişide tembellik ve miskinlik duyguları uyandırması

5. Aşağıdakilerden hangisi melekin özellikleri arasında sayılmaz?

- A) Cinsiyetleri yoktur.
B) İrade sahibi değildirler.
C) Ateşten yaratılmışlardır.
D) Kuvvetli ve süratli varlıklardır.

6. Aşağıdaki ayetlerin hangisi konusu itibariyle diğerlerinden farklıdır?

- A) "...Ey Müminler! Hepiniz Allah'a tövbe ediniz ki kurtuluşa eresiniz." (Nur suresi, 31. ayet)
B) "Göklerin ve yerin gaybı Allah'a aittir, bütün işler O'na götürülür. O'na kulluk et ve O'na güven..." (Hûd suresi, 123. ayet)
C) "Rabbinizden bağışlanma dileyin; sonra O'na tövbe edin. Şüphesiz Rabbim çok merhametlidir, çok severdir." (Hûd suresi, 90. ayet)
D) "Ey iman edenler! Allah'a içtenlikle tövbe edin. Umulur ki, Rabbiniz sizin kötülüklerinizi örter..." (Tahrîm suresi, 8. ayet)

7. Aşağıdakilerden hangisi gözle görülemeyen varlıklardan biri değildir?

- A) Allah B) Cinler
C) Melekler D) Peygamberler

8. "(O peygamberi) apaçık belgeler ve kitaplarla gönderdik. İnsanlara, kendilerine indirilene açıklaman ve onların da üzerinde düşünmeleri için sana bu Kur'an'ı indirdik." (Nahl suresi, 44. ayet)

Bu ayette Kur'an'ın indiriliş amacı olarak aşağıdakilerden hangisi vurgulanmaktadır?

- A) Okuyup anlamaya çalışmak
B) Ölülerin arkasından okumak
C) Düzgün ve tane tane okumak
D) Ezberleyip ibadetlerde uygulamak

9. • Sorumluluklarının farkında olur.
• Hesabını veremeyeceği iş ve davranışlardan kaçınır.
• Allah'ın huzurunda mahcup olmamak için ibadetlerini titizlikle yerine getirir.

Kişide bu davranışların oluşmasına en çok katkı sağlayan inanç aşağıdakilerden hangisidir?

- A) Kader inancı
B) Melek inancı
C) Ahiret inancı
D) Peygamber inancı

10. • Allah'a, peygambere ve peygamberin getirdiği mesaja şüphe etmeden inanmaktır.
• Allah'a saygı ile boyun eğmek, emirlerine itaat etmek, Allah'ın insanlara verdiği sayısız nimetlere karşı şükran borcunu yerine getirmektir.

Tanımları verilen iki kavram aşağıdakilerden hangisidir?

- A) Hayır-Şer
B) Kaza-Kader
C) İnanç-İbadet
D) Sevap-Günah

11. Aşağıdakilerden hangisi ibadet olarak kabul edilmez?

- A) Haset etmek
B) Namaz kılmak
C) Allah'ı zikretmek
D) Doğru sözlü olmak

12. Aşağıdakilerden hangisi farz olan ibadetlerden biri değildir?

- A) Namaz kılmak
B) Zekât vermek
C) Umre yapmak
D) Oruç tutmak

13. "Sana vahyedilen Kitab'ı oku, namazı da dosdoğru kıl. Gerçekten namaz insanı hayâsızlıktan ve fenalıktan alıkoyar..." (Ankebût suresi, 45. ayet)

Bu ayette, namazın Müslüman üzerindeki etkilerden hangisi vurgulanmaktadır?

- A) İç huzuru sağlaması
B) Allah ile kul arasındaki bağları kuvvetlendirmesi
C) Kötülüklerden ve çirkin işlerden uzaklaştırması
D) Müslümanlar arası birlik ve beraberliği artırması

3. OTURUM

14. Aşağıdakilerden hangisi oruç ibadetinin amaçlarından biri değildir?

- A) Aç ve yoksul insanların durumlarını anlamak
- B) Müslümanları mal biriktirmeye teşvik etmek
- C) Sahip olunan nimetlerin kıymetini bilmek
- D) Sabırlı ve hoş görülü olmayı öğretmek

15. Aşağıdaki kişilerden hangisi zekât vermeye yükümlüdür?

- A) Borç ve ihtiyaç fazlası 80 gr altın veya o değerinde mala sahip olan
- B) Borcunu ödeyebilecek kadar mala sahip olan
- C) Kendi ihtiyacı için kullandığı bir arabaya sahip olan
- D) Oturmak için satın alınan bir daireye sahip olan

16. Aşağıdakilerden hangisi Kur'an'ı anlama ve yorumlamada sakınılması gereken hususlardan biridir?

- A) Ayetlerin iniş sebeplerini göz önünde bulundurmamak
- B) İlahi bir kitap olduğunun farkında olmak
- C) Anlam bütünlüğünü bozacak yorumlardan kaçınmak
- D) Ayetleri kendi menfaat ve isteğine göre yorumlamak

17. Kur'an-ı Kerim'in en uzun ve en kısa suresi aşağıdakilerden hangisidir?

- A) Yasin-Fil
- B) Fatıha-İhlas
- C) Âli İmran-Nas
- D) Bakara-Kevser

18. Aşağıdakilerden hangisi "salih amel" olarak kabul edilir?

- A) Zamanı boşa geçirmek
- B) Yapmayacağı şeyler için söz vermek
- C) Yakınlara, yetimlere ve yoksullara yardım etmek
- D) Kişinin hoşlanmayacağı şeyleri arkasından konuşmak

19. Aşağıdakilerden hangisi Hz. Muhammed (sav.) için söylenmez?

- A) Rahmettir.
- B) Uyarıcıdır.
- C) Örnektir.
- D) Baskıcıdır.

20. Aşağıdakilerden hangisi Hz. Muhammed (sav.)'in peygamberlik yönü ile ilgili değildir?

- A) Evlenip aile kurması
- B) Kur'an'ı açıklaması
- C) İnsanları uyarması
- D) Vahiy alması

(114) DİN KÜL. AHL. BİL. – 4

1. Aşağıdakilerden hangisi İslam'a göre doğru bilgiyi elde etme yollarından biri değildir?

- A) Akıl
- B) Rüya
- C) Vahiy
- D) Duyular

2. Hak ve özgürlükler ile ilgili aşağıda verilenlerden hangisi yanlıştır?

- A) İnsanca yaşayabilmek için gerekli haklar vazgeçilemez, dokunulamaz, devredilemez.
- B) Hak ve özgürlüklerin kullanımı başkalarının hak ve özgürlüklerine zarar vermemeye bağlıdır.
- C) Sahip olduğumuz hakların sınırları, diğer insanların haklarının başladığı yerde biter.
- D) Özgürlükler kamu yararı için olsa bile sınırlandırılmaz.

3. Hak ve özgürlüklerin varlığı ve devamı öncelikle aşağıdakilerden hangisine bağlıdır?

- A) Eğitim hakkına
- B) Yaşama hakkına
- C) İnanç özgürlüğüne
- D) Düşünce ve ifade özgürlüğüne

4. Aşağıdaki ayetlerin hangisinde temel hak ve özgürlüklere vurgu yoktur?

- A) "Kim bir Mümini bile bile öldürürse, onun cezası içinde temelli kalacağı cehennemdir..." (Nisa suresi, 93. ayet)
- B) "Ve de ki: O Kur'an, Rabbinizden gelen bir haktır. Artık dileyen iman etsin, dileyen inkâr etsin..." (Kehf suresi, 29. ayet)
- C) "...Birbiriniz kusurlarını ve mahremiyetlerini araştırmayın..." (Hucurât suresi, 12. ayet)
- D) "Göklerde ve yerde ululuk O'na aittir. O, mutlak güç sahibidir, hüküm ve hikmet sahibidir." (Câsiye suresi, 37. ayet)

5. "Sizden evvelkilerin mahvolmalarının sebebi şudur ki: İçlerinden şerefli bir kimse hırsızlık yapınca onu cezasız bırakır; zayıf birisi çalınca kanunu tatbik eder, onu cezalandırırlardı. Allah'a yemin ederim ki, Muhammed'in kızı Fatıma da hırsızlık etse, cezasız bırakmazdım."

Bu hadiste aşağıdakilerden hangisi vurgulanmıştır?

- A) Kanunlar önünde herkesin eşit tutulması gerektiği
- B) Zengin ve soylu olanların kayırılması gerektiği
- C) Fakir ve yoksul olanların affedilmesi gerektiği
- D) Adaletin bazı dönemlerde yanlış uygulandığı

6. İlk dünya haritasını günümüzdeki ölçülerine yakın biçimde çizen ünlü Müslüman Türk denizcisi ve coğrafyacısı kimdir?

- A) Birunî
- B) Piri Reis
- C) Ali Kuşçu
- D) Uluğ Bey

7. Aşağıdakilerden hangisi kul hakkı kapsamına girmez?

- A) İftira atmak
- B) Gıybet etmek
- C) İstişare etmek
- D) Yalan konuşmak

3. OTURUM

8. Kul hakkı ihlali ile ilgili verilen bilgilerden hangisi yanlıştır?

- A) Büyük bir günahdır.
- B) Affı, hakkı yenenin bağışlamasına bağlıdır.
- C) Bazı durumlarda cezası adli kurumlarca verilir.
- D) Zararı suçu işleyenden başkasına dokunmaz.

9. Atatürk'ün, "insan ve toplum hayatı için vazgeçilmez bir müessesese, milletleri yükselten ve onların devamlılığını sağlayan en önemli unsurlardan biri" olarak gördüğü kurum aşağıdakilerden hangisidir?

- A) Örf
- B) Din
- C) Ahlâk
- D) Kültür

10. Aşağıdakilerden hangisi Atatürk'ün din ile ilgili düşüncelerinden biri değildir?

- A) Birlik ve beraberliğin sağlanmasına katkı sunar.
- B) Toplumlara geleceğe taşımada etkilidir.
- C) Din eğitimi medreselerde verilmelidir.
- D) Milletleri ayakta tutan manevi bir değerdir.

11. Aşağıdaki ifadelerden hangisi yanlıştır?

- A) Din, bireyin sosyalleşmesini engeller.
- B) Hurafeler dinin doğru anlaşılıp yaşanmasına zarar verir.
- C) Cehalet ve taassup dinin yozlaştırılmasına ortam hazırlar.
- D) Bilimsel gelişmeler dinin doğru anlaşılmasına katkı sağlar.

12. "...O, Allah'ın büyük bir kuludur. Onun izinde bu gün milyonlarca insan yürüyor. Benim, senin adın silinir, fakat sonsuza kadar onun adı ölümsüzdür."

Atatürk'ün, bu sözleri ile kastedtiği peygamber aşağıdakilerden hangisidir?

- A) Hz. Davut (as.)
- B) Hz. Yusuf (as.)
- C) Hz. İbrahim (as.)
- D) Hz. Muhammed (sav.)

13. Bir düşünceye veya bir inanışa körü körüne bağlanmak, taraf olmak; kendi görüşünden başka diğer görüş ve düşüncelere hayat hakkı tanımamaya - - - - denir.

Boş bırakılan yere aşağıdakilerden hangisi getirilemez?

- A) tefekkür
- B) taassup
- C) bağnazlık
- D) fanatizm

14. Aşağıdaki davranışlardan hangisi özgürlük kapsamına girmez?

- A) İsteddiği mesleği seçme
- B) İsteddiği inancı tercih etme
- C) Fikirlerini açıkça dile getirme
- D) Yetkilerini baskı unsuru olarak kullanma

15. Aşağıdakilerden hangisi peygamberlere vahyin geliş şekillerinden biri değildir?

- A) Kalbe ilham etme
- B) Cebrail vasıtasıyla iletme
- C) Allah ile doğrudan görüşme
- D) Perde arkasından duyurma

16. Aşağıdaki ayet ve hadislerden hangisi İslam'ın ilme verdiği değer ile ilgili değildir?

- A) "Ben güzel ahlakı tamamlamak için gönderildim." (Hadis-i şerif)
- B) "...Hiç bilenlerle bilmeyenler bir olur mu?..." (Zümer suresi, 12. ayet)
- C) "...Kulları içinde ancak âlimler, Allah'tan (gereğince) korkar..." (Fatır suresi, 28. ayet)
- D) "Kıyamet gününde âlimlerin mürekkebi, şehitlerin kanıyla tartılır." (Hadis-i şerif)

17. Aşağıdakilerden hangisi Hz. Muhammed (sav.)'in ilme verdiği önemi gösteren örneklerden biridir?

- A) Erdemliler birliğine üye olması
- B) Hudeybiye anlaşmasını imzalaması
- C) Mescid-i Nebi'nin bitişine Suffe'yi yaptırması
- D) Mekke'nin fethiyle Kabe'yi putlardan temizlemesi

18. Aşağıdakilerden hangisi İslam medeniyetinde eğitim kurumlarından biridir?

- A) Küttaplar
- B) Hanlar
- C) Bedestenler
- D) Kervansaraylar

19. Aşağıdakilerden hangisi "hadis" alanında yetişmiş bilim adamlarından birisidir?

- A) Farabi
- B) Battânî
- C) Buhari
- D) Harezmi

20. Aşağıdakilerden hangisi yanlıştır?

- A) Hukuk kuralları insanın hayatını düzenler.
- B) Hukuk kuralları insan hak ve ödevlerinin sınırlarını belirler.
- C) Hukuk kuralları huzur, güven ve barış ortamına katkı sağlar.
- D) Hukuk kuralları belli bir kesimin inancını garanti altına alır.

(116) DİN KÜL. AHL. BİL. – 6

1. İlk Diyanet İşleri Başkanı aşağıdakilerden hangisidir?

- A) Ali BARDAKOĞLU
- B) M. Rifat BÖREKÇİ
- C) Mehmet GÖRMEZ
- D) Mehmet Nuri YILMAZ

2. Aile ile ilgili aşağıda verilen ifadelerden hangisi yanlıştır?

- A) Çocukların geleceğe hazırlanmasında aile büyük rol oynar.
- B) Sevgi ve şefkat ailede güven ortamının oluşmasını sağlar.
- C) Ailelerin huzur ve mutluluğu, toplumun huzur ve mutluluğuna katkı sağlar.
- D) Mutlu bir aile ortamının oluşması, çocukların davranışlarında tamamen özgür bırakılmasına bağlıdır.

3. OTURUM

3. • Yahudilikte evlilik dini bir gerekliliktir.
• Hristiyanlıkta iffeti korumanın ve nesli sürdürmenin yolu evlilikten geçer.
• Hinduizm'de evlilik kadın ile erkek arasında ölüme kadar süren bir anlaşmadır.
• İslam'da evlilik hem neslin devam etmesi için bir vesile hem de kişiyi günahlardan koruyan bir vasıttır.

Bu açıklamalara göre aşağıdakilerden hangisi doğrudur?

- A) İlahi dinlerde boşanma haramdır.
B) Farklı din ve inançlarda evlilik vardır ve teşvik edilmiştir.
C) Evliliğin tek amacı neslin korunmasıdır.
D) Bütün dinlerde evlilik zorunlu tutulmuştur.

4. “Hz. Peygamber’in, torunları Hasan ve Hüseyin ile oynaması, onları sırtına bindirmesi, öpüp koklaması” **aile içi iletişimde aşağıdakilerden hangisine örnek oluşturur?**

- A) Disipline
B) Kararlılığa
C) Sevgi ve şefkate
D) Büyüklere saygıya

5. “Rabb’in, sadece kendisine kulluk etmenizi, ana-babanıza da iyi davranmanızı kesin bir şekilde emretti. Onlardan biri veya her ikisi senin yanında yaşlanırsa, kendilerine ‘öf’ bile deme; onları azarlama; ikisine de güzel söz söyle.” (İsrâ suresi, 23. ayet)

Bu ayette aşağıdakilerden hangisi emredilmektedir?

- A) Peygambere itaat edilmesi
B) Küçüklere sevgi ve şefkat ile davranılması
C) Anne, babaya saygı ve merhamet gösterilmesi
D) Eşlerin birbirlerinin haklarına riayet etmesi

6. **Aşağıdaki hadislerden hangisi ailede çocuk eğitiminin önemi ile ilgili değildir?**

- A) “Sizin en hayırlınız, kadınlarınıza karşı en iyi davrananızdır.”
B) “Çocuklarınıza hoşça davranın ve onları güzel terbiye edin.”
C) “Hiçbir baba çocuğuna güzel terbiyeden daha üstün bir bağışta bulunmamıştır.”
D) “Çocukları sevin, onlara karşı şefkatli olun, onlara verdiğiniz sözü harfiyen yerine getirin...”

7. **Aşağıdaki ayet ve hadislerden hangisi akrabalık ilişkileri ile ilgili değildir?**

- A) “Yakınları ile ilgisini kesen kimse cennete giremez.” (Hadis)
B) “İyiliğin en mükemmeli, bir adamın baba dostunu, hısım ve akrabalarını gözetmesidir.” (Hadis)
C) “...akrabalık haklarına riayetsizlikten sakının...” (Nisa suresi, 1. ayet)
D) Allah’a ve ahiret gününe inanan kişi misafirine ikramda bulunsun...” (Hadis)

8. **Diyanet İşleri Başkanlığı aşağıdakilerden hangisine bağlıdır?**

- A) Başbakanlık
B) İçişleri Bakanlığı
C) Millî Eğitim Bakanlığı
D) Kültür ve Turizm Bakanlığı

9. **Aşağıdakilerden hangisi ailede çocuğa kazandırılması gereken davranışlardan biri değildir?**

- A) Bencillik ve duyarsızlık
B) Görev ve sorumluluk
C) Sevgi ve merhamet
D) Şefkat ve hoşgörü

10. **Ülkemizde halka dini hizmetler vermekle görevli en yetkili kurum aşağıdakilerden hangisidir?**

- A) İlahiyat Fakülteleri
B) Diyanet İşleri Başkanlığı
C) Vakıflar Genel Müdürlüğü
D) Din Öğretimi Genel Müdürlüğü

11. **Diyanet İşleri Başkanlığının en yüksek karar ve danışma organı aşağıdakilerden hangisidir?**

- A) Hac ve Umre Hizmetleri Genel Müdürlüğü
B) Mushafı İnceleme ve Kıraat Kurulu
C) Din Hizmetleri Genel Müdürlüğü
D) Din İşleri Yüksek Kurulu

12. **Aşağıdakilerden hangisi Diyanet İşleri Başkanlığının görevlerinden biri değildir?**

- A) Halkı dini konularda bilgilendirmek
B) İlahiyat Fakültelerinin açılmasına onay vermek
C) Dini konularda yayın faaliyetleri yürütmek
D) Din hizmeti sunan kurum ve kuruluşların faaliyetlerini izlemek ve değerlendirmek

13. “Cami ve mescitlerde din hizmetlerini yürütmek, dini konularda toplumu bilgilendirmek ve cemaate namaz kıldırmakla görevli olan kişi” **aşağıdakilerden hangisidir?**

- A) Vaiz
B) Müftü
C) İmam-hatip
D) Müezzin-kayyım

14. **Aşağıdakilerden hangisi bulunduğu il ya da ilçede din hizmetlerinin yürütülmesinden birinci derecede sorumludur?**

- A) Vaiz
B) Müftü
C) Müezzin
D) İmam-hatip

15. “Bayram ve Cuma namazlarında, insanları dini konuda aydınlatmak ve onlara dini mesajlar vermek amacı ile camilerde yapılan konuşmaya” **ne ad verilir?**

- A) Dua
B) Mevlid
C) Nasihat
D) Hutbe

16. **Aşağıdakilerden hangisi İslam medeniyeti içerisinde doğup gelişen sanat dallarından biridir?**

- A) Ebru
B) Müzik
C) Resim
D) Heykelticilik

3. OTURUM

17. • "...Allah her şeyi yaratmış, ona ölçü, biçim ve düzen vermiştir." (Furkân suresi, 2. ayet)
• "Biz insanı en güzel biçimde yarattık." (Tin suresi, 4. ayet)
• "...Sizi şekillendirdi ve şekillerinizi de güzel yaptı..." (Teğâbun suresi, 3. ayet)

Bu ayetlerin ortak konusu aşağıdakilerden hangisidir?

- A) Yaratılış ve estetik
B) Varlık ve yokluk
C) İman ve ibadet
D) Ahlak ve din

18. **İslam tarihinde ilk yapılan mes-cit aşağıdakilerden hangisidir?**

- A) Mescid-i Nebi
B) Küba Mescidi
C) Mescid-i Haram
D) Mescid-i Kibleteyn

19. **Aşağıdakilerden hangisi tasav-vuf edebiyatının önemli isimle-rinden biri değildir?**

- A) Hacı Bayram-ı Veli
B) Süleyman Çelebi
C) Hamit Aytaç
D) Yunus Emre

20. Kâğıt veya deri üzerine yapılan, ışık, gölge ve derinliği olmayan küçük boyutlu ve renkli resimlerdir.

Tanımı verilen sanat dalı aşağıdakilerden hangisidir?

- A) Hat
B) Ebru
C) Tezhip
D) Minyatür

(122) FELSEFE – 2

1. **Aşağıdaki kavramlardan hangisi "bireyi eylemleri hakkında bir yargıda bulunmaya zorlayan duygu, iç mahkeme" diye tanımlanır?**

- A) İyilik
B) Erdem
C) Vicdan
D) Özgürlük

2. Cansız varlıkların ve hayvanların özgürlüğünden söz edilemez. Yere bırakılan bir taşın düşmekten başka seçeneği olamaz. Bundan dolayı, özgürlük yalnızca insana mahsustur.

Bu parçadan çıkarılabilecek sonuç aşağıdakilerden hangisidir?

- A) Özgürlük iradeye bağlı değildir.
B) İnsan özgür olmadan mutlu olamaz.
C) Sadece insan seçimlerini kendisi yapabilir.
D) Cansız varlıklar insanları yönlendirebilir.

3. **Aşağıdakilerden hangisi "ahlaki eylemin amacı nedir?" sorusuna verilmiş bir cevap değildir?**

- A) Ödev
B) Fayda
C) Mutluluk
D) Kötülük

4. **İnsanın doğası gereği bencil olduğu için, ahlakta da egemen olan şeyin insanın çıkarı olduğunu ve bundan dolayı da evrensel ahlak yasasının olmadığını savunan görüş hangisidir?**

- A) Egoizm
B) Anarşizm
C) Hedonizm
D) Utilitarizm

5. **Aşağıdakilerden hangisi ahlaki bir yargıdır?**

- A) Su 100 °C'de kaynar.
B) Yalan söylemek günahtr.
C) Hırsızlık yapmak kötüdür.
D) Orhan Veli'nin şiirleri güzeldir.

6. I. Kötülük bilgisizlikten ileri gelir.
II. Ahlaki eylemin amacı mutluluktur.
III. İyi ideası iyiliğin özünü oluşturur.

Yukarıdaki görüşlerden hangileri Sokrates'e aittir?

- A) I ve II
B) I ve III
C) II ve III
D) I, II ve III

7. **Aşağıdakilerden hangisi siyaset felsefesinin konuları arasında yer almaz?**

- A) Birey devlet ilişkisi
B) Bilginin değeri
C) Din devlet ilişkileri
D) Yönetimin geçerlilik ölçütleri

8. **Toplumda bir süre sonra çözülmelere ve toplumsal yaşamın sürdürülememesine neden olan düzensizlik hâli aşağıdaki kavramlardan hangisiyle ifade edilir?**

- A) Düzen
B) Ütopya
C) Bürokrasi
D) Karmaşa

9. **Max Weber'e göre kaynağını yazılı hukuk kurallarından alan ve bu kuralların yönetilenleri olduğu kadar, yönetenleri de bağladığı otorite biçimi aşağıdakilerden hangisidir?**

- A) Dinsel otorite
B) Karizmatik otorite
C) Geleneksel otorite
D) Demokratik otorite

10. **Seçme seçilme hakkı, bireyin temel haklarından hangisinin kapsamına girer?**

- A) Siyasal Haklar
B) Kişisel Haklar
C) Toplumsal Haklar
D) Ekonomik Haklar

11. **"Nasıl doğada güçlüler kazanıyorsa, hukukta da adalet güçlüden yana olmalıdır." görüşü aşağıdaki yargılardan hangisine ters düşer?**

- A) Doğal hukuk pozitif hukuktan üstündür.
B) Güçlü güçsüzden daha çok şeye sahip olmalıdır.
C) Doğal olan toplumsal olandan daha değerlidir.
D) İdeal düzen insanlar arasında tam bir eşitliğin sağlandığı düzendir.

3. OTURUM

12. Aşağıdakilerden hangisi ideal düzenin eşitlikle kurulabileceğini savunan yaklaşıma ait bir görüş olamaz?

- A) Eşitlik sağlandığında özgürlük de sağlanacaktır.
- B) Üretim araçları toplumun ortak mülkiyeti olmalıdır.
- C) Eşitlik insanların kendilerini geliştirmelerine engel olur.
- D) Eşitsizlik toplumun ve devletin bütünlüğünü tehlikeye atar.

13. Aşağıdaki ütopyalardan hangisi teknolojinin olumsuz etkisine karşı insanları uyarma amacı taşımaktadır?

- A) Ütopya
- B) Yeni Dünya
- C) Güneş Ülkesi
- D) Erdemli toplu

14. Aşağıdakilerden hangisi "Güzellik nedir, ortak bir güzellik anlayışı var mıdır?" gibi soruları yanıtlamaya çalışır?

- A) Estetik
- B) Ontoloji
- C) Psikoloji
- D) Epistemoloji

15. Aşağıdakilerden hangisi sanatı "yaratma" olarak açıklayan düşünceye ait bir görüştür?

- A) Sanat insanı kaygılardan uzaklaştırır.
- B) Sanatçı eserinde ideaları yansıtmalıdır.
- C) Sanatçı yaratıcı gücünü kullanarak sanat eserini oluşturur.
- D) İnsan ancak sanat eserinde tam olarak özgürlüğe kavuşur.

16. Sanat eseriyle ilgili aşağıdakilerden hangisi söylenemez?

- A) Tektir, aynısı tekrarlanamaz.
- B) Tanrı yaratımı olan ürünlerdir.
- C) Değerlere ilişkin mesajlar verebilir.
- D) Alımlayıcısında estetik bir duygu oluşturur.

17. Estetik yargıların kişiden kişiye değişmesinin temel nedeni aşağıdakilerden hangisidir?

- A) Beğenilerin farklı olması
- B) Sanat eserlerinin kalıcı olması
- C) Estetik yargıların zamanla değişebilmesi
- D) Doğa ile sanattaki güzelin aynı olmaması

18. Aşağıdakilerden hangisi din felsefesinin ele aldığı, Tanrı'nın varlığı ile ilgili sorulardan değildir?

- A) Tanrı var mıdır?
- B) Ölüm bir son mudur?
- C) Tanrı'nın varlığı kanıtlanabilir mi?
- D) Tanrı içkin midir, yoksa aşkın midir?

19. Bu kanıtlamaya göre, tüm insanlar iyilik yapmaya eğilimlidir. Bu yasa öğrenilmemiştir. Vicdanlarımızda hazır olarak bulunur. Bunu insanlara kazandıran da Tanrı'dır.

Yukarıda Tanrı'nın varlığı ile ilgili kanıtlardan hangisi açıklanmıştır?

- A) Ereklilik kanıtı
- B) Ontolojik kanıt
- C) Kozmolojik kanıt
- D) Ahlaki kanıt

20. Tanrı'nın varlığını kabul etmekle birlikte, evreni yaratıp bir daha müdahale etmediğini savunan bu yüzden de kutsal kitap, vahiy, peygamber gibi kavramları reddeden görüş aşağıdakilerden hangisidir?

- A) Teizm
- B) Deizm
- C) Panteizm
- D) Agnostisizm

(124) SEÇMELİ FELSEFE – 2

1. İnsanın eylemlerinin sonuçlarını üstlenmesi, aşağıdaki kavramlardan hangisiyle ifade edilir?

- A) Etik
- B) Kötü
- C) Özgürlük
- D) Sorumluluk

2. İslamiyet'ten önce Arabistan'da doğan kız çocukları diri diri toprağa gömülürdü. Bu yapılması gereken bir ödevdi. Hz. Muhammed'in gelişi ve İslam'ın yayılmasından sonra bu uygulama yasaklandı.

Bu bilgiye göre aşağıdaki yargılardan hangisine ulaşabiliriz?

- A) Her insanın özünde iyi olduğuna
- B) Kuralların toplumları her zaman iyiye yönelttiğine
- C) Ahlak kurallarının aynı toplumda zamanla değişebildiğine
- D) Kız çocuklarının tüm toplumlarda küçük görüldüğüne

3. I. Tanrının varlığı kanıtlanabilir mi?
II. Evrensel ahlak yasası var mıdır?
III. İnsan ahlaki eylemde bulunurken özgür müdür?

Yukarıda verilenlerden hangileri ahlak felsefesinin temel sorularındandır?

- A) I ve II
- B) I ve III
- C) II ve III
- D) I, II ve III

4. Her eylemde olabildiğince çok insanın, olabildiğince çok yararının göz önüne alınması ilkesini ahlak felsefesinin temelini koyan yaklaşım hangisidir?

- A) Utilitarizm
- B) Egoizm
- C) Hedonizm
- D) Entüisyonizm

5. Mevlana'ya göre evrensel ahlak yasasının temelinde hangi öğe bulunur?

- A) Haz
- B) Sevgi
- C) Ödev
- D) Mutluluk

6. Kant'a göre, muhtaç birine insanların gözüne iyi görünmek için ya da dini bir çıkar duygusuyla yardım edersek davranışımız ahlaki olmaz.

Kant'ın bu düşüncesinin gerekçesi aşağıdakilerden hangisi olabilir?

- A) Dini unsurlar ahlakın kapsamının dışındadır.
- B) Bir eylemin ahlaki olup olmadığı kişiden kişiye değişir.
- C) Toplumsal kurallar insanı ahlaki eylemlerden uzaklaştırır.
- D) Ahlaki eylem ödevden dolayı yapılan ve çıkar gözetmeyen eylemdir.

3. OTURUM

7. Devletin iktidar gücünü, hiçbir iç veya dış baskı olmadan kullanmasını ifade eden kavram aşağıdakilerden hangisidir?

- A) Yasa B) Devlet
C) Egemenlik D) Sivil toplum

8. Aşağıdakilerden hangisi Platon'un devlet anlayışını yansıtmaz?

- A) Devlet yapay bir kurumdur
B) Devlet bir organizmadır.
C) Devlet sınıflardan oluşur.
D) Devleti ortaya çıkaran insanların ihtiyaçlarıdır.

9. Aşağıdakilerden hangisi siyaset felsefesinin sorularından değildir?

- A) İktidarın kaynağı nedir?
B) Ölümden sonra bir hayat var mıdır?
C) En iyi yönetim şekli hangisidir?
D) Egemenliğin kullanılış biçimleri nelerdir?

10. İnsan haklarıyla ilgili verilen bilgilerden hangisi yanlıştır?

- A) Etik bir anlayışla hareket eder.
B) Bireylere kendilerini özgürce ifade etme olanağı sağlamaz.
C) İnsanların özgürlüğünü güvence altına alır.
D) Her insanın doğuştan sahip olması gereken haklardır

11. İdeal düzenin kurulması için özgürlük ve eşitlik tek başına yeterli değildir. Bunları kaynaştıracak üçüncü bir ölçüt gerekir.

Açıklamada bahsedilen üçüncü ölçüt aşağıdakilerden hangisidir?

- A) Adalet B) Laiklik
C) Meşruiyet D) Demokrasi

12. Aşağıdakilerden hangisi, her türlü otoritenin, insanın üzerinde baskı kurarak yaratıcılığını, özgürlüğünü yok edeceğini gerekçe göstererek, ideal düzenin olamayacağını savunan felsefi görüştür?

- A) Determinizm B) Liberalizm
C) Utilitarizm D) Nihilizm

13. Aşağıdakilerden hangisinde Farabi'nin "Erdemli Şehir" ütopyasıyla ilgili yanlış bilgi verilmiştir?

- A) İnsanlar Tanrı inancına sahip değildir.
B) Evrensel barıştan söz edilmiştir.
C) Farabi toplumu insan bedenine benzetir.
D) Devletin başkanı bilginler arasından seçilir.

14. I. Sanat ve oyun arasında benzerlikler vardır.
II. Sanat sanatçının nesnelere taklit etmesiyle ortaya çıkar.
III. Sanat eseri sanatçının madde ve biçimle oynamasıyla ortaya çıkar.

Yukarıdaki yargılardan hangileri sanatı oyun olarak kabul eden görüşe uygundur?

- A) I ve II B) I ve III
C) II ve III D) I, II ve III

15. "Gerçeklikte tiksinerik baktığımız şeylere, bir sanat eseri hâline gelince hayranlıkla bakarız"

Aristoteles bu ifadesiyle aşağıdakilerden hangisini vurgulamak istemiştir?

- A) Sanat doğada güzel olandır.
B) Doğanın güzelliği insandan bağımsızdır.
C) Sanat eseri gerçeği yansıttığı kadar güzeldir.
D) Doğadaki güzellik ile sanattaki güzellik birbiriyle örtüşmeyebilir.

16. Aşağıdakilerden hangisi estetiğin temel kavramlarından?

- A) İyi B) Kutsal
C) Güzel D) Erdem

17. "Kimi menekşeyi sever, kimi orki-deyi; kimi halk müziği sever, kimi klasik batı müziği; kimi Picasso'nun resimlerini beğenir, kimi Salvador Dali'nin"

Bu parçaya dayanarak aşağıdaki yargılardan hangisine ulaşılabilir?

- A) Ortak estetik yargılar olamaz.
B) Sanat eseri yaratıcılığın ürünüdür.
C) Estetik yargılar kültürden etkilenir.
D) Güzellik sadece sanat eserine ait bir özelliktir.

18. Ey Muhammed de ki: "Ben yalnızca sizin gibi bir beşerim. Bana ilahınızın sadece bir ilah olduğu vahyolunuyor. Her kim Rabbine kavuşmayı umuyorsa, iyi iş yapsın ve Rabbine ibadette hiçbir şeyi ortak koşmasın." (Kehf Suresi, 18:110)

Yukarıdaki ayette din felsefesinin temel kavramlarından hangisi doğrudan yoktur?

- A) Tanrı B) Vahiy
C) Peygamber D) Yüce

19. Tek Tanrılı dinlerdeki yaratılan ayrılığını reddederek, Tanrıyla evreni bir tutan görüş aşağıdakilerden hangisidir?

- A) Teizm B) Deizm
C) Panteizm D) Agnostisizm

20. Tanrı'nın varlığını reddedenlerin, "herşeyi bilen, en yüce ve en iyi olan bir Tanrı neden evrendeki acı, kötülük ve yetersizlikleri yaratmıştır?" sorusuna dayanarak ileri sürdükleri kanıt aşağıdaki-lerden hangisidir?

- A) Ontolojik Kanıt
B) Kötülük Kanıtı
C) Ahlaki gerekçeler kanıtı
D) Kozmolojik kanıt

3. OTURUM

(133) TARİH – 3

1. Aşağıdakilerden hangisi Orhan Bey Dönemi'nde fethedilen yerlerden biri değildir?

- A) Edirne B) Bursa
C) İzmit D) İznik

2. Osmanlıların Rumeli'ye geçişinden sonra Haçlılarla yaptıkları ilk savaş aşağıdakilerden hangisidir?

- A) Çirmen B) Niğbolu
C) I. Kosova D) Sırpsındığı

3. Anadolu Hisarı'nı yaptıran Osmanlı padişahı, aşağıdakilerden hangisidir?

- A) Orhan Bey
B) Mehmet Çelebi
C) Yıldırım Bayezit
D) Murat Hüdavendigâr

4. Aşağıdaki devletlerden hangisinin yıkılması, küçük bir prenslik olan Moskova Knezliği'nin güçlenmesini sağlamıştır?

- A) Bizans İmparatorluğu
B) Altın Orda Devleti
C) Memlûk Devleti
D) İlhanlı Devleti

5. Kastamonu ve Sinop dolaylarında varlığını sürdüren İsfendiyaroğulları Beyliği'ne son veren Osmanlı hükümdarı, aşağıdakilerden hangisidir?

- A) Yıldırım Bayezit
B) Fatih Sultan Mehmet
C) Yavuz Sultan Selim
D) Kanuni Sultan Süleyman

6. Aşağıdakilerden hangisi Osmanlı ordusunun eyalet askerleri bölümü içinde yer alır?

- A) Azaplar B) Cebeciler
C) Silahhtarlar D) Yeniçeriler

7. İtalya'da Rönesans en çok hangi alanda ön plana çıkmıştır?

- A) Din B) Bilim
C) Sanat D) Felsefe

8. Osmanlı taşra teşkilatındaki en büyük yönetim birimi, aşağıdakilerden hangisidir?

- A) Köy B) Kaza
C) Sancak D) Eyalet

9. Osmanlı Devleti, aşağıdaki savaşlardan hangisini Doğu Anadolu'nun güvenliğini sağlamak ve Safevi tehdidini önlemek için yapmıştır?

- A) II. Kosova B) Çaldıran
C) Haçova D) Ridaniye

10. Kazaskerler ve Şeyhülislam, Divanihümayun'da hangi sınıfı temsil ederler?

- A) Reaya B) Seyfiye
C) Kalemiye D) İlimiye

11. Osmanlılar, Edirne – Segedin Antlaşması'nı, aşağıdaki devletlerden hangisiyle imzalamışlardır?

- A) Macaristan B) Bulgaristan
C) Venedik D) İran

12. Aşağıdakilerden hangisi Ridaniye Savaşı'nın sonuçlarındandır?

- A) İstanbul'un fethi
B) Kıbrıs Adası'nın ele geçirilmesi
C) Kutsal emanetlerin İstanbul'a getirilmesi
D) Dulkadiroğulları Beyliği'ne son verilmesi

13. 1565 tarihli Malta Kuşatması'nda şehit düşen Osmanlı denizcisi, aşağıdakilerden hangisidir?

- A) Barbaros Hayrettin Paşa
B) Kılıç Ali Paşa
C) Turgut Reis
D) Çaka Bey

14. Aşağıdakilerden hangisine aynı zamanda "Tekke Edebiyatı" da denir?

- A) Halk edebiyatı
B) Divan edebiyatı
C) Tanzimat edebiyatı
D) Tasavvuf edebiyatı

15. Osmanlı Devleti Nasuh Paşa ve Serav antlaşmalarını, aşağıdaki devletlerden hangisiyle imzalamıştır?

- A) İran B) Rusya
C) Venedik D) Avusturya

16. Kalvenizm, aşağıdaki ülkelerin hangisinde resmen mezhep olarak kabul edilmiştir?

- A) İngiltere B) Fransa
C) Almanya D) İsviçre

17. Aşağıdaki bilgilerden hangisi Karlofça Antlaşması ile ilgili değildir?

- A) Kutsal İttifak Devletleri'nden Avusturya, Venedik ve Lehistan ile Osmanlı Devleti arasında 1699 yılında imzalanan bir antlaşmadır.
B) Antlaşma için taraflar arasında İngiltere ve Hollanda arabuluculuk yapmıştır.
C) Osmanlı bu antlaşmayla doğuda en geniş sınırlara ulaşmıştır.
D) Türklerin Avrupa'da ilerleyişi durmuştur.

18. Aşağıdakilerden hangisi ilk Osmanlı – Rus antlaşmasıdır?

- A) Bucaş B) Çehrin
C) Vasvar D) Zıtvectoruk

19. 17. yüzyıl Avrupa'sında ortaya çıkan ve "Bir ülke ne kadar çok madene ve paraya sahipse o kadar zengindir." anlayışı ile özdeşleşen ekonomik anlayış, aşağıdakilerden hangisidir?

- A) Sosyalizm B) Komünizm
C) Liberalizm D) Merkantilizm

3. OTURUM

20. Osmanlı Devleti'nin ilk resmî tarihçisi aşağıdakilerden hangisidir?

- A) Evliya Çelebi
- B) Naima
- C) Nef'i
- D) İtri

(134) TARİH – 4

1. Lale Devri aşağıdaki hangi ayaklanma ile sona ermiştir?

- A) Mehmet Ali Paşa
- B) Kabakçı Mustafa
- C) Patrona Halil
- D) Kalenderoğlu

2. Osmanlı Devleti 1739 tarihli Belgrad Antlaşması'nı, aşağıdaki hangi devletlerle ayrı ayrı imzalamıştır?

- A) Rusya ve Avusturya'yla
- B) Venedik ve Lehistan'la
- C) Avusturya ve İngiltere'yle
- D) Almanya ve Piyemonte'yle

3. Aşağıdakilerden hangisinin masraflarının karşılanması için İradıcedit Hazinesi kurulmuştur?

- A) Darülfünunun
- B) Dolmabahçe Sarayı'nın
- C) Nizamıcedit Ordusu'nun
- D) İttihat ve Terakki Cemiyetinin

4. Rusya'nın, Ortodoksların haklarını koruma bahanesiyle Osmanlı Devleti'nin içişlerine karışma hakkını elde ettiği antlaşma aşağıdakilerden hangisidir?

- A) Küçük Kaynarca
- B) Pasarofça
- C) Zıstovi
- D) Londra

5. Fransa, İngiltere'nin sömürgesi Hindistan ile olan bağlantısını kesmek amacıyla aşağıdaki hangi Osmanlı toprağını 1798 yılında işgal etmiştir?

- A) Boğdan
- B) Eflak
- C) Tunus
- D) Mısır

6. I. Meşrutiyet aşağıdaki hangi Osmanlı padişahı döneminde ilan edilmiştir?

- A) I. Abdülhamit
- B) II. Abdülhamit
- C) Abdülmecit
- D) Abdülaziz

7. Osmanlı Devleti'nin I. Dünya Savaşı'nda savaştığı ilk cephe aşağıdakilerden hangisidir?

- A) Çanakkale
- B) Galiçya
- C) Kafkas
- D) Kanal

8. Kuruluş Dönemi'nden itibaren bir bakanlar kurulu gibi görev yapan Divanihümayun, aşağıdaki hangi Osmanlı padişahı döneminde kaldırılarak yerine "Nazırlar Kurulu" kurulmuştur?

- A) II. Abdülhamit
- B) Abdülmecit
- C) III. Selim
- D) II. Mahmut

9. Aşağıdakilerden hangisi Osmanlı Devleti'nin kendi valisiyle imzalamak zorunda kaldığı bir antlaşmadır?

- A) Uşi
- B) Kütahya
- C) Atina
- D) İstanbul

10. Reisülküttaplık, Divanihümayun düzeyinde temsil edilmezden önce aşağıdaki divan üyelerinden hangisine bağlı olarak çalışıyordu?

- A) Nişancıya
- B) Defterdara
- C) Şeyhülislama
- D) Kaptanıderyaya

11. 1856 Paris Antlaşması'nın;

- I. Osmanlı Devleti'nin bir Avrupa devleti sayılması,
- II. Eflak ve Boğdan'da yönetimin özerk bir komisyona verilmesi,
- III. Osmanlı toprak bütünlüğünün büyük devletlerce tanınması,
- IV. Karadeniz'in tarafsız hâle getirilmesi

maddelerinden hangileri, batılılaşma süreci bağlamında bir dönüm noktası olduğu savunulabilir?

- A) Yalnız I
- B) Yalnız III
- C) II ve III
- D) I, II ve IV

12. Aşağıdakilerden hangisinin sonucunda Osmanlı Devleti'nin yönetim şeklinin değiştiği savunulabilir?

- A) Islahat Fermanı'yla
- B) Tanzimat Fermanı'yla
- C) I. Meşrutiyet'in ilanıyla
- D) Yeniçeri Ocağı'nın kaldırılmasıyla

13. Yeniçeri Ocağı'nın yerine "Asakirimansureimuhammediye (Muhammed'in zafer kazanmış orduları)" adlı ordu aşağıdaki hangi Osmanlı padişahı zamanında kurulmuştur?

- A) II. Ahmet
- B) II. Mahmut
- C) III. Selim
- D) I. Abdülhamit

14. Osmanlı Devleti Kırım Savaşı'nda aşağıdaki hangi devletle savaşmıştır?

- A) İngiltere
- B) Fransa
- C) Sardinya
- D) Rusya

15. Osmanlı Devleti'nde, II. Meşrutiyet Dönemi'nden itibaren Türkçülük akımının güç kazanmasının nedenleri arasında aşağıdakilerden hangisi yoktur?

- A) Müslüman tebaanın isyan eylemlerine kalkışması
- B) Osmanlı yöneticilerinin Panturanizm akımından etkilenmeleri
- C) Fransız İhtilali'nin yaydığı milliyetçilik akımının etkisini sürdürmesi
- D) 19. yüzyıldaki Türk tarihine ilişkin araştırmaların millî bilinç ve kültürü teşvik etmesi

3. OTURUM

(142) T.C. İNK. TAR. ATA. – 2

16. Osmanlı Devleti'nin, aşağıdaki antlaşmalardan hangisiyle "dağılma ve parçalanma" dönemine girdiği kabul edilir?

- A) Küçük Kaynarca
- B) Karlofça
- C) Zıstovi
- D) Berlin

17. Sanayi Devrimi, aşağıdaki Osmanlı kurumlarından özellikle hangisini olumsuz yönde etkilemiştir?

- A) Kütüphaneleri
- B) Medreseleri
- C) Loncaları
- D) Mahkemeleri

18. Ermeni Meselesi, aşağıdakilerden hangisi ile ilk kez dünya kamuoyuna ve uluslararası antlaşmalara girmiştir?

- A) Lozan Konferansı
- B) Berlin Antlaşması
- C) Tanzimat Fermanı
- D) Patrona Halil İsyanı

19. Nusret mayın gemisinin gizlice mayınladığı su yolu aşağıdakilerden hangisidir?

- A) Süveyş Boğazı
- B) Hürmüz Boğazı
- C) İstanbul Boğazı
- D) Çanakkale Boğazı

20. Osmanlı Devleti'nin imzaladığı aşağıdaki antlaşmalardan hangisiyle ülkede yeni bir dönemin başladığı kabul edilebilir?

- A) Mondros Ateşkes Antlaşması
- B) Brest – Litovsk Antlaşması
- C) Zıstovi Antlaşması
- D) Yaş Antlaşması

1. Aşağıdakilerden hangisi 3 Mart 1924'te gerçekleştirilen inkılaplardan biri değildir?

- A) Halifeliğe son verilmesi
- B) Tevhid-i Tedrisat Kanunu'nun çıkarılması
- C) Şeriye ve Evkaf Vekâletinin kaldırılması
- D) Cumhuriyetin ilan edilmesi

2. Atatürk Dönemi'nde çok partili hayata geçilmesi üzerine Kâzım Karabekir başkanlığında aşağıdaki siyasi partilerden hangisi kurulmuştur?

- A) Cumhuriyet Halk Fırkası
- B) Terakkiperver Cumhuriyet Fırkası
- C) Hürriyet ve İtilaf Fırkası
- D) Serbest Cumhuriyet Fırkası

3. Aşağıdaki kanunlardan hangisi güvenlik amacıyla çıkarılmıştır?

- A) Takrir-i Sükûn Kanunu
- B) Tevhid-i Tedrisat Kanunu
- C) Türk Medeni Kanunu
- D) Soyadı Kanunu

4. • Medreselerin kapatılması
• Tevhid-i Tedrisat Kanunu'nun çıkarılması

Yukarıdaki inkılaplarla hangi alanda laikleşme amaçlanmıştır?

- A) Eğitim
- B) Hukuk
- C) Sağlık
- D) Siyasi

5. Aşağıdakilerden hangisi toplumsal yaşayışı düzenlemek amacıyla yapılmamıştır?

- A) Tekke, zaviye ve türbelerin kapatılması
- B) Kıyafet değişikliğinin gerçekleştirilmesi
- C) Aşar vergisinin kaldırılması
- D) Soyadı Kanunu'nun çıkarılması

6. İlk özel Türk bankası aşağıdakilerden hangisidir?

- A) Ziraat Bankası
- B) İş Bankası
- C) Halk Bankası
- D) Vakıf Bankası

7. Türkiye'nin denizlerinde tam bağımsızlığı aşağıdakilerden hangisiyle sağlanmıştır?

- A) Teşvik-i Sanayi Kanunu'nun kabulüyle
- B) Ölçülerde değişiklik yapılmasıyla
- C) Liman sayısının artırılmasıyla
- D) Kabotaj Kanunu'nun çıkarılmasıyla

8. Atatürkçü millî dış politikanın aşağıdaki ilkelerinden hangisi yayılcı siyasete karşı olduğunu göstermektedir?

- A) Millî sınırlarımız içinde kalmak
- B) Her şeyden önce milli güce dayanmak
- C) Bağımsızlığı her şeyin üstünde tutmak
- D) Dünyadaki gelişmeleri göz önünde bulundurmak

9. Aşağıdakilerden hangisi Türkiye ile Yunanistan arasında olmuştur?

- A) Nüfus mübadelesi
- B) Hatay sorunu
- C) Sadabat Paketi
- D) Musul meselesi

10. Türkiye aşağıdakilerden hangisini kendi iç meselesi sayarak çözümünde yalnız hareket etmiştir?

- A) Hatay meselesini
- B) Irak sınırını
- C) Yabancı okullar sorununu
- D) Boğazlar meselesini

11. Balkan Antantı aşağıdaki ülkelerin hangisinde imzalanmıştır?

- A) Türkiye
- B) Yugoslavya
- C) Yunanistan
- D) Romanya

12. Şeyh Sait İsyanı, aşağıdakilerden hangisinin çözümünde Türkiye'yi olumsuz etkilemiştir?

- A) Musul sorunu
- B) Boğazlar sorunu
- C) Hatay sorunu
- D) Nüfus mübadelesi

3. OTURUM

13. Sadabat Paktı'nın kurulmasında aşağıdaki devletlerden hangisinin Orta Doğu'ya yönelen tehditleri etkili olmuştur?

- A) Almanya B) İtalya
C) Japonya D) Fransa

14. Aşağıdakilerden hangisi Atatürkçülüğün dinamik niteliğini gösterir?

- A) Kişi hak ve hürriyetlerine önem vermesi
B) İnsanlığın ortak değerlerini kapsaması
C) Yurtta ve dünyada barışı amaçlaması
D) Sürekli gelişmeyi öngörmesi

15. Atatürk'ün "Hayatta en hakiki mürşit ilimdir." sözü, Atatürk ilke ve inkılaplarının dayandığı aşağıdaki esaslardan hangisiyle ilişkilidir?

- A) Barışçılık B) Akılcılık
C) Bağımsızlık D) Vatan sevgisi

16. Atatürk'ün aşağıdaki sözlerinden hangisi cumhuriyetçilik ilkesiyle ilişkilendirilebilir?

- A) Egemenlik kayıtsız şartsız milletindir.
B) Türkiye Cumhuriyeti'ni kuran Türk halkına Türk milleti denir.
C) Din ve mezhep hiçbir zaman politikaya alet olarak kullanılamaz.
D) Memleket kesinlikle modern, çağdaş ve yenilikçi olacaktır.

17. Atatürk'ün - - - - ilkesi, Türkiye'nin en kısa zamanda kalkınması için özellikle ekonomik alanda fertlerin yapamayacağı büyük yatırımları devletin yapmasıdır.

Bu cümlede boş bırakılan yere aşağıdakilerden hangisi yazılmalıdır?

- A) Cumhuriyetçilik
B) Milliyetçilik
C) Devletçilik
D) Halkçılık

18. Aşağıdakilerden hangisi, II. Dünya Savaşı'nın sonuna doğru Mihver Devletlere karşı savaş açarak Müttefik Devletler yanında yer almıştır?

- A) Almanya B) Türkiye
C) Bulgaristan D) Japonya

19. Türkiye'de 27 Mayıs 1960 İhtilali ile iktidarı sona eren siyasi parti aşağıdakilerden hangisidir?

- A) Millet Partisi
B) Demokrat Parti
C) Cumhuriyet Halk Partisi
D) Millî Kalkınma Partisi

20. Türkiye'nin NATO'ya üye olmasında aşağıdaki devletlerden hangisinin tehditleri etkili olmuştur?

- A) Almanya
B) İngiltere
C) Amerika Birleşik Devletleri
D) Sovyetler Birliği

(153) COĞRAFYA – 3

1. Aşağıdaki kayalardan hangisi fiziksel tortul kayalara örnektir?

- A) Kil taşı B) Kireç taşı
C) Kaya tuzu D) Alçı taşı

2. Tüf ve bazalt farklı dirençteki iki kayaç türüdür. Kayalardan hangisinin bu direnç farkı aşağıdaki yer şekillerinden hangisinin oluşmasına ortam hazırlamıştır?

- A) Peribacaları B) Travertenler
C) Obruklar D) Polyeler

3. Aşağıdakilerden hangisi kayaç döngüsünün aşamalarından değildir?

- A) Erime B) Aşınma
C) Yoğuşma D) Soğuma

4. İzlanda hangi iki levhanın birleşme noktasında bulunmaktadır?

- A) Naska – Kokos
B) Afrika – Arabistan
C) Hindistan – Avrasya
D) Avrasya – Kuzey Amerika

5. Ülkemiz aşağıdaki levhalardan hangileri arasında yer almaktadır?

- A) Avrasya levhası – Pasifik levhası
B) Afrika levhası – Arabistan levhası
C) Avrasya levhası – Arabistan levhası
D) Afrika levhası – Antarktika levhası

6. I. Taşımacılıkta kullanılmasına
II. İçme suyu olarak kullanılmasına
III. Sulama suyu olarak kullanılmasına

Deniz sularının tuzlu olması yukarıdakilerden hangilerine engel olmaktadır?

- A) Yalnız I B) Yalnız II
C) I ve III D) II ve III

7. Aşağıdakilerden hangisi set göllerinin oluşmasına neden olan faktörlerden değildir?

- A) Volkanizma
B) Akarsular
C) Heyelan
D) Yer altı suları

8. Aşağıdaki tabloda dört farklı akarsuyun mevsimlere göre akım değerleri (m³/sn) verilmiştir.

Akarsu	İlkbahar (m ³ /sn)	Yaz (m ³ /sn)	Sonbahar (m ³ /sn)	Kış (m ³ /sn)
I	310	50	40	205
II	180	203	196	190
III	100	40	43	76
IV	35	16	7	30

Verilen akarsulardan hangisinin rejimi daha düzenlidir?

- A) I B) II C) III D) IV

3. OTURUM

9.

Merkez	Yıllık Yağış Miktarı (mm)	Yıllık Sıcaklık Farkı (C°)
I	1600	10
II	370	26
III	650	19
IV	830	17

Yukarıda yağış ve sıcaklık ortalamaları verilen merkezlerden hangisinde fiziksel ayrışma şiddeti daha fazladır?

A) I B) II C) III D) IV

10. Toprağın tarımsal verimliliği üzerinde aşağıdaki katmanlardan hangisinin etkisi daha fazladır?

A) A horizonu B) B horizonu
C) C horizonu D) D horizonu

11. Çernezyom toprakların özellikleri arasında aşağıdakilerden hangisi gösterilemez?

A) Horizonları yoktur.
B) Çayır bitki örtüsünün altında oluşur.
C) Zonal toprakların en verimlisidir.
D) Karasal iklimin yarı nemli sahalarında oluşur.

12. Aşağıdaki bitki örtüsünden hangisinin yayılış alanı kereste üretimine en az uygundur?

A) Orta kuşağın karışık ormanları
B) Tayga ormanları
C) Muson ormanları
D) Savan

13. 1953 yılında Çin'de ilk defa yapılan nüfus sayımı dünya nüfusunun tespiti için oldukça önemli bir olaydır.

Bu durumun en önemli nedeni aşağıdakilerden hangisidir?

A) Sayımların devlet kanalıyla ve resmi olarak yapılması
B) Nüfusun yaş gruplarına göre dağılımının tespit edilmesi
C) Nüfusunun dünya nüfusu içindeki payının fazla olması
D) Nüfus artış hızının tespit edilebilmesi için veri elde edilmesi

14. Aşağıdakilerden hangisi nüfus artışının olumlu sonuçlarından değildir?

A) Göçlerin artmasını sağlaması
B) Yeni iş alanlarının açılmasını sağlaması
C) Kişi başına düşen milli geliri azaltması
D) Altyapı hizmetlerini yetersiz bırakması

15. 1923 yılında Lozan Antlaşması ile yapılan mübadele göçleri ülkemiz ile hangi ülke arasında yapılmıştır?

A) Bulgaristan B) Ermenistan
C) Yunanistan D) Gürcistan

16. Selim çalıştığı kurumda; online hizmetler, ağ işletmenliği, grafik-tasarım hizmetleri gibi işleri yapmaktadır.

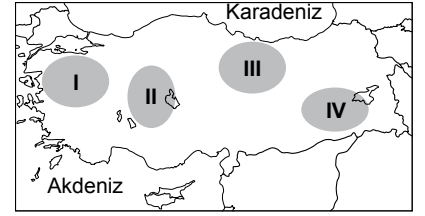
Selim hangi ekonomik faaliyet türünde çalışmaktadır?

A) Birincil ekonomik faaliyet
B) İkincil ekonomik faaliyet
C) Üçüncül ekonomik faaliyet
D) Dördüncül ekonomik faaliyet

17. Türkiye'nin aşağıdaki özelliklerinden hangisi özel konumunun sonuçlarından biridir?

A) Üç kıtanın birbirine en fazla yaklaştığı konumda yer alır.
B) Kuzeyden esen rüzgârlar sıcaklığı düşürürken güneyden esen rüzgârlar sıcaklığı yükseltir.
C) Dağların güney yamaçları kuzey yamaçlarına oranla daha sıcaktır.
D) Güneyden kuzeye gidildikçe güneş ışınlarının geliş açısı küçülür.

18.



Haritada işaretlenmiş alanlardan hangisindeki plato sayısı daha fazladır?

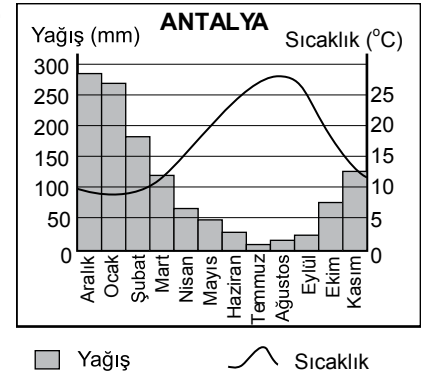
A) I B) II C) III D) IV

19. I. Sıcaklık farkının az olması
II. Yağış miktarının fazla olması
III. Yükselti farkının fazla olması

Kıyılarımızda nem oranının yüksek olması yukarıdakilerden hangilerine neden olmaktadır?

A) Yalnız I B) Yalnız III
C) I ve II D) II ve III

20.



Antalya ilinin yukarıdaki yıllık sıcaklık ve yağış grafiği ile ilgili hangisi söylenemez?

A) En fazla yağışı kış mevsiminde almaktadır.
B) Yıllık sıcaklık farkı 15C°'nin altındadır.
C) Temmuz ve Ağustos aylarında sıcaklık fazla, yağış azdır.
D) Sıcaklıklar kış mevsiminde 10C°'nin altına düşmektedir.

3. OTURUM

(154) COĞRAFYA – 4

1. Aşağıdakilerden hangisi ülkemizde toprak çeşitliliğini etkileyen faktörlerdendir?

- A) Nüfus yoğunluğu
- B) Kuzey Yarım Küre’de olması
- C) Farklı iklimlerin görülmesi
- D) Çok sayıda ülkeye komşu olması

2. Alüvyal toprakları diğer toprak türlerinden ayıran temel özelliği aşağıdakilerden hangisidir?

- A) Tarıma elverişli topraklar olması
- B) Farklı boyutlardaki malzemelerden oluşması
- C) Karadeniz bölgesinde görülmesi
- D) Akarsuların taşıdığı malzemelerin birikmesiyle oluşması

3. Aşağıdakilerden hangisi ülkemizdeki endemik bitkilerden değildir?

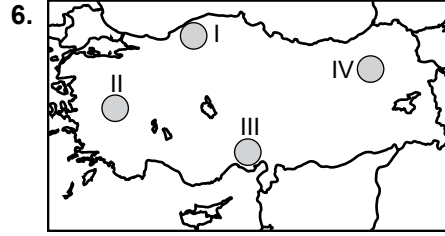
- A) İncir
- B) Sığıla
- C) Anzer çayı
- D) Nemrut soğanı

4. Maki bitki topluluğu için aşağıdakilerden hangisi söylenmez?

- A) Kışın yapraklarını döken ağaç formasyonudur.
- B) Yaprakları kalın, sert cilalı veya tüylüdür.
- C) Kıyılarda çıkabildiği üst sınır sıcaklığı göre değişir.
- D) Kızılçamların tahrip edildiği Akdeniz kıyılarında yaygındır.

5. Aşağıdakilerden hangisi nüfus ve yerleşmenin dağılımını etkileyen doğal faktörlerdendir?

- A) Ulaşım
- B) Toprak çeşitliliği
- C) İç göçler
- D) Madencilik



6. Haritada numaralandırılmış taralı alanların hangisinde nüfus yoğunluğu daha yüksektir?

- A) I
- B) II
- C) III
- D) IV

7. • Köye bağlı yerleşim birimlerinin en yaygın olanıdır.
• Halkın yaz döneminde hayvanlarını otlatmak için çıktıkları alanlardır.
• Kuzey Anadolu dağlarında turizm faaliyeti, Toroslarda ise sıcaktan korunmak amacıyla da yararlanılır.

Yukarıda bazı özellikleri sıralanan kırsal yerleşmenin adı nedir?

- A) Yayla
- B) Mezra
- C) Dam
- D) Çiftlik

8. Bir ülkede geleceğe yönelik iş, eğitim, sağlık gibi ihtiyaçların belirlenebilmesi için öncelikle nüfusun hangi yapısal özelliğinin ortaya çıkarılması gerekir?

- A) Okuryazar oranı
- B) Kırsal nüfus oranı
- C) Yaş dilimlerine dağılımı
- D) Cinsiyete göre dağılımı

9. Cumhuriyet’in ilk yıllarından günümüze kadar geçen zamanda çalışan nüfus oranı tarımda azalırken sanayide artmıştır.

Bu bilgiye dayanarak aşağıdakilerden hangisi söylenebilir?

- A) Tarım önem verilmeyen bir sektördür.
- B) Sanayileşme dış göçleri artırmaktadır.
- C) Türkiye ekonomisi sürekli büyümektedir.
- D) Sanayileşme nüfus artış hızımızı yükseltmiştir.

10. Aşağıdaki illerimizin hangisinde yıllık göç verme oranı daha azdır?

- A) Sinop
- B) Edirne
- C) Ardahan
- D) Bitlis

11. 15 ve 16. yüzyıllarda Avrupalıların ilk keşif seyahatlerine yönelmesinde aşağıdakilerden hangisinin etkisi daha fazla olmuştur?

- A) Avrupa nüfusunun hızlı artışı
- B) Sanatta yaşanan gelişmeler
- C) Avrupa’da yaşanan bulaşıcı hastalıklar
- D) Asya ve Afrika’nın sahip olduğu zenginlikler

12. 1400’lü yıllara kadar baharatın Avrupa’ya taşınmasında aşağıdaki denizlerden hangisi kullanılmamıştır?

- A) Akdeniz
- B) Kızıldeniz
- C) Karadeniz
- D) Karayib denizi

13. Ümit Burnu’nu dolaşarak Hindistan’a ilk ulaşan denizci kimdir?

- A) Vasko dö Gama
- B) Kolomb
- C) Bartelmi Diyaz
- D) Macellan

14. I. Radyo istasyonlarının kurulması
II. Telefonun icadı
III. İlk televizyonun tanıtımı
Verilen gelişmeler tarihsel olarak hangi seçenekte doğru sıralanmıştır?

- A) I, II, III
- B) II, I, III
- C) II, III, I
- D) III, II, I

15. Mustafa Kemal Atatürk bir sözünde teknolojiyi üretmenin kullanıp tüketmekten daha önemli olduğunu vurgulamıştır.

Bundaki temel düşüncesi aşağıdakilerden hangisidir

- A) Toplumun birlik ve bilincinin geliştirilmesini istemesi
- B) Toplumun kültür seviyesinin yükselmesini istemesi
- C) Ülkedeki hammaddenin kullanılmasını istemesi
- D) Bilimsel, teknolojik gelişme ve üretimin ülkemizi kalkındıracağını düşünmesi

3. OTURUM

16. Aşağıdakilerden hangisi ülkemizde depremlerin oluşmasına neden olan faktördür?

- A) Jeolojik yapı
- B) İklim özellikleri
- C) İnsan faktörü
- D) Yeryüzü şekilleri

17. Aşağıdakilerden hangisi kuraklığa bağlı gerçekleşmez?

- A) Baraj seviyelerinin düşmesi
- B) Tarımsal verimin azalması
- C) Kitlemel göç hareketinin yaşanması
- D) Yer altı su seviyesinin yükselmesi

18. Aşağıdaki doğal afetlerden hangisinin gerçekleşme süresi daha uzundur?

- A) Sel
- B) Kuraklık
- C) Deprem
- D) Heyelan

19. Aşağıdakilerden hangisi ülkemizin volkanik dağlarından biridir?

- A) Kaçkar
- B) Süphan
- C) Sultan
- D) Aladağlar

20. Aşağıdakilerden hangisi doğal afetler öncesinde alınması gereken önlemler arasında yoktur?

- A) Eğitim ve tatbikatların yapılması
- B) Afet riski olan yerlerin belirlenmesi
- C) İlk yardım ve tedavi sürecinin başlatılması
- D) Erken uyarı, izleme ve ikaz sistemlerinin kurulması

(158) COĞRAFYA – 8

1. Aralık 2014 verilerine göre Türkiye nüfusu yaklaşık olarak ne kadardır?

- A) 56 milyon
- B) 78 milyon
- C) 85 milyon
- D) 97 milyon

2. Aşağıdakilerden hangisi 1960'lardaki Nüfus Planlaması Kanunu'nun kişilere tanıdığı temel özgürlüktür?

- A) Kişilerin istedikleri zaman istedikleri kadar çocuk sahibi olması
- B) Nüfus artışının tamamen durdurulması
- C) Çok çocuk sahibi olmanın teşvik edilmesi
- D) Ailelerin çocuk sayısını ekonomik gücüne göre belirlemesi

3. Türkiye nüfus piramidi incelendiğinde piramit tabanının son yirmi yıl içinde daraldığı görülür.

Bu bilgiye dayanarak aşağıdakilerden hangisine ulaşamaz?

- A) Yaşlı nüfus oranı artmaktadır.
- B) Doğum oranı düşmektedir.
- C) Çocuk nüfus oranı artmaktadır.
- D) Nüfus artış hızı düşmektedir.

4. Yurdumuzda bölgesel kalkınma projelerinin hazırlanmasında aşağıdakilerden hangisinin etkisi daha fazladır?

- A) Ülkemizde kalkınma potansiyeline sahip ancak gelişememiş bölgelerin olması
- B) Nüfus artış hızının bölgeden bölgeye farklılık göstermesi
- C) Küresel iklim değişikliğine karşı tedbir alınmak istenmesi
- D) Bölgede var olan doğal kaynakların belirlenmesi

5. Aşağıdaki barajlardan hangisi GAP faaliyet alanının dışındadır?

- A) Atatürk
- B) Karakaya
- C) Kralkızı
- D) Hirfanlı

6. Aşağıdakilerden hangisi Türkiye'nin jeopolitik önemini daha az etkiler?

- A) Enerji kaynaklarının yakınında bulunması
- B) Ortadoğu ve Balkanları birbirine bağlaması
- C) Kentsel nüfus oranının giderek artması
- D) İstanbul ve Çanakkale boğazlarına sahip olması

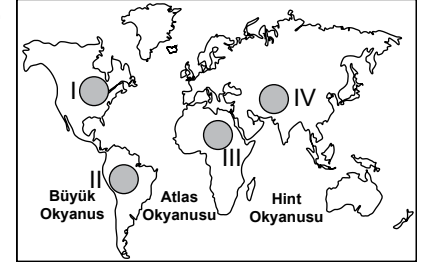
7. Türkiye, Yunanistan ile aşağıdaki uluslararası sorunlardan hangisini yaşamamaktadır?

- A) Kıbrıs sorunu
- B) Filistin sorunu
- C) Batı Trakya sorunu
- D) Ege denizi kıta sahanlığı sorunu

8. Aşağıdakilerden hangisi ülkemizin gelişmişlik düzeyi hakkında bilgi veren ölçütlerden biridir?

- A) Yüzölçümü
- B) Nüfus miktarı
- C) Sınır uzunluğu
- D) Okullaşma oranı

9.



2010 Dünya İnsani Gelişim Raporu'nda haritada numaralandırılarak verilen alanların hangisinin gelişim endeksi çok yüksek olarak görülmektedir?

- A) I
- B) II
- C) III
- D) IV

10. Aşağıdakilerden hangisi Almanya'nın beşeri bir özelliğidir?

- A) Dünyanın dördüncü büyük ekonomisine sahiptir.
- B) Baltık ve Kuzey Denizi'ne kıyısı vardır.
- C) Güneyinde Alp dağları ve Bavyera platosu bulunur.
- D) Konstans en büyük gölüdür.

3. OTURUM

11. Kolombiya, Brezilya ve Arjantin zengin tarım alanlarına sahip olmalarına rağmen bunlardan ekonomik olarak yeterince yararlanamamaktadır.

Bunun temel sebebi aşağıdakilerden hangisidir?

- A) Sermaye birikimlerinin yetersiz olması
- B) Tarım alanlarını başka ülkelere ait şirketlerin işletmesi
- C) Sanayi ve hizmet sektörüne daha çok yatırım yapmaları
- D) Tarımın ekonomik değerinin gerektiği kadar anlaşılması

12. İnşa edilecek petrol rafinerisi ve LNG terminali ile "enerji musluğu" olarak nitelendirilecek şehrimiz aşağıdakilerden hangisidir?

- A) Silifke
- B) Hopa
- C) Ceyhan
- D) Manavgat

13. Aşağıdakilerden hangisi uluslararası sıcak çatışmalara neden olan doğal faktörlerdendir?

- A) Sınır sorunları
- B) Bağımsızlık istekleri
- C) Ulaşım araçlarının kontrolü
- D) Su kaynaklarının paylaşımı

14. I. Aşırı buharlaşma
II. Bağımsızlık istekleri
III. İklim özellikleri
IV. Etnik, mezhepsel ayrılıklar
Yukarıda verilenlerden hangileri Ortadoğu'da su kaynaklı sorunların ortaya çıkmasına doğrudan neden olmuştur?

- A) I ve II
- B) I ve III
- C) II ve IV
- D) III ve IV

15. Doğaya ve ekolojik dengeye zarar veren en önemli sorun aşağıdakilerden hangisidir?

- A) Bilimsel çalışmalara az kaynak aktarılması
- B) Turizm faaliyetlerine katılımın artması
- C) Doğal kaynakların aşırı ve bilinçsiz kullanımı
- D) Nüfusun kırsal alanlardan göç etmesi

16. Aşağıdakilerden hangisi toprağın doğal kaynak olarak iyi korunmasının gerekliliğini daha fazla göstermektedir?

- A) Hayvanlara besin maddesi sağlaması
- B) Farklı kimyasal bileşiklerden oluşması
- C) Doğaya düzensiz şekilde dağılması
- D) Oluşumu uzun sürmesine rağmen kolay aşınması

17. Gelişmiş ekipmanlarla deniz ve okyanuslarda balık avlayan gemilerin okyanus ekosistemine verdiği en büyük zarar aşağıdakilerden hangisidir?

- A) Suları kirletmeleri
- B) Bazı balık türlerini daha çok avlamaları
- C) Balıkların göç yollarını etkilemesi
- D) Balığı doğal üremesinden daha fazla avlayarak tüketmesi

18. Aşağıdakilerden hangisi doğal afetlerin insanlara verdiği zararların azaltılmasında etkili olmuştur?

- A) Nüfusun artması
- B) Teknolojinin gelişmesi
- C) Yerleşim alanlarının genişlemesi
- D) Doğal kaynak tüketiminin artması

19. • 1972'de BM Konferansı sonucunda kurulmuştur.

- Merkezi Nairobi (Kenya)'dir.
- Farklı ülkelerde 6 ofisi bulunmaktadır.

Bazı özellikleri verilen çevre örgütünün adı nedir?

- A) Dünya Dostları
- B) Avrupa Çevre Ajansı
- C) BM Çevre Programı
- D) Doğal Hayatı Koruma Derneği

20. Dünya doğal miras alanlarından olan Gallapagos adaları nerede bulunur?

- A) Büyük Okyanus
- B) Hint okyanusu
- C) Atlas Okyanusu
- D) Akdeniz

(163) MATEMATİK – 3

1. $0! + 1! + 2! + 3! + 4!$ işleminin sonucu aşağıdakilerden hangisidir?

- A) 10
- B) 30
- C) 33
- D) 34

2. Bir semtten bir ev almak isteyen bir kişi bu semtte bulunan 20 farklı villa, 30 farklı apartman dairesi arasından kaç farklı seçim yapabilir?

- A) 50
- B) 200
- C) 400
- D) 600

3. 4 elemanlı alt kümelerinin sayısı, 3 elemanlı alt kümelerinin sayısına eşit olan kümenin eleman sayısı kaçtır?

- A) 3
- B) 4
- C) 7
- D) 12

4. Hilesiz bir zar ile düzgün bir madeni para birlikte atılıyor. Zarın üst yüzüne gelen sayının asal ve madeni paranın tura gelme olasılığı kaçtır?

- A) $\frac{1}{4}$
- B) $\frac{1}{5}$
- C) $\frac{1}{6}$
- D) $\frac{1}{12}$

5. $f : \mathbb{R} \rightarrow \mathbb{R}$, birebir ve örten bir fonksiyondur. $f(x - 4) = 3x + 2$ olduğuna göre $f^{-1}(-1)$ kaçtır?

- A) -9
- B) -5
- C) -1
- D) 5

6. $f, g : \mathbb{R} \rightarrow \mathbb{R}$, $f(x) = 2x^2 + x - 5$ ve $g(x) = 4x + 2$ olduğuna göre $(f - g)(-2)$ kaçtır?

- A) 4
- B) 5
- C) 6
- D) 7

7. $f, g : \mathbb{R} \rightarrow \mathbb{R}$, $f(x) = 2x - 9$ ve $g(x) = x^2 + 1$ fonksiyonları veriliyor. Buna göre $(g \circ f)(3)$ kaçtır?

- A) 13
- B) 12
- C) 10
- D) 9

3. OTURUM

8. Koordinat düzleminde verilen $M(-3, 2)$ ve $N(1, 4)$ noktaları arasındaki uzaklık kaç birimdir?

- A) 20 B) 10
C) $4\sqrt{5}$ D) $2\sqrt{5}$

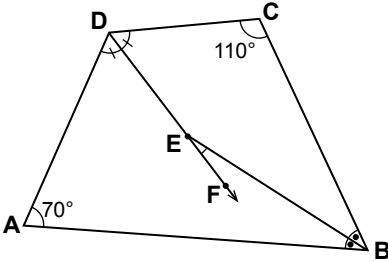
9. Denklemi $ax - 3y + 11 = 0$ olan doğrunun eğimi 4 olduğuna göre a kaçtır?

- A) 12 B) $\frac{4}{3}$
C) $-\frac{4}{3}$ D) -12

10. $A(0, 3)$ noktasından geçen ve $2x - y + 1 = 0$ doğrusuna paralel olan doğrunun denklemi aşağıdakilerden hangisidir?

- A) $2x - y + 4 = 0$
B) $2x - y + 3 = 0$
C) $2x - y + 2 = 0$
D) $2x - y + 1 = 0$

11.

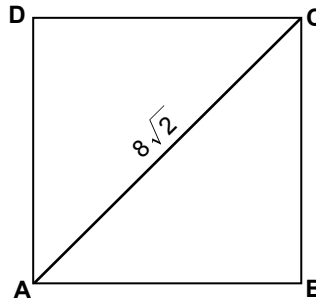


Şekilde verilen ABCD dörtgeninde $[BE]$, \widehat{ABC} açısının; $[DF]$, \widehat{ADC} açısının açıortayıdır.

$m(\widehat{BCD}) = 110^\circ$ ve $m(\widehat{DAB}) = 70^\circ$ olduğuna göre $m(\widehat{BEF})$ kaç derecedir?

- A) 20 B) 40 C) 60 D) 90

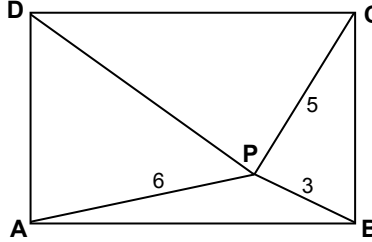
12.



Şekildeki ABCD karesinde $|AC| = 8\sqrt{2}$ cm olduğuna göre ABCD karesinin çevresi kaç santimetredir?

- A) 16 B) 24 C) 32 D) 48

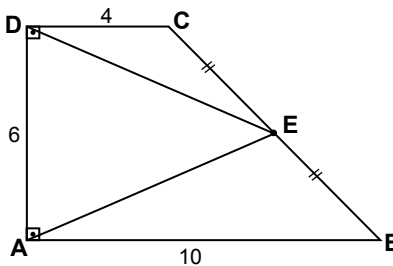
13.



Şekildeki ABCD dikdörtgeninde P noktası dikdörtgenin iç bölgesinde herhangi bir noktadır. $|PA| = 6$ cm, $|PB| = 3$ cm ve $|PC| = 5$ cm olduğuna göre $|PD|$ kaç santimetredir?

- A) $\frac{\sqrt{13}}{2}$ B) $\sqrt{13}$
C) $2\sqrt{13}$ D) $4\sqrt{13}$

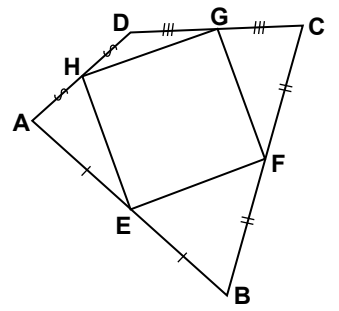
14.



Şekildeki ABCD dik yamuğunda, $[DC] \parallel [AB]$ ve $[AD] \perp [AB]$ 'tir. $|AB| = 10$ cm, $|AD| = 6$ cm, $|DC| = 4$ cm ve $|CE| = |EB|$ olduğuna göre $A(\widehat{AED})$ kaç santimetrekaredir?

- A) 42 B) 36 C) 24 D) 21

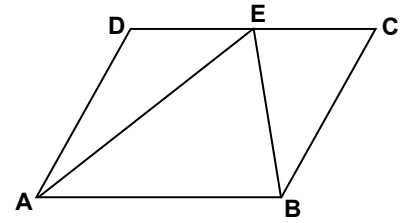
15.



Şekildeki ABCD dörtgeninde E, F, G ve H noktaları buldukları kenarların orta noktalarıdır. $A(ABCD) = 72$ cm² olduğuna göre $A(EFGH)$ kaç santimetrekaredir?

- A) 18 B) 36 C) 44 D) 52

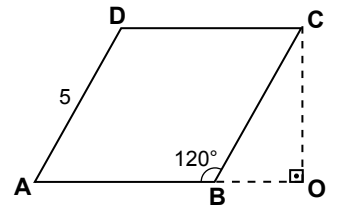
16.



Şekildeki ABCD paralelkenarında E noktası $[DC]$ üzerindedir. $A(\widehat{ADE}) = 16$ cm² ve $A(\widehat{BEC}) = 12$ cm² olduğuna göre $A(ABCD)$ kaç santimetrekaredir?

- A) 56 B) 64 C) 72 D) 84

17.



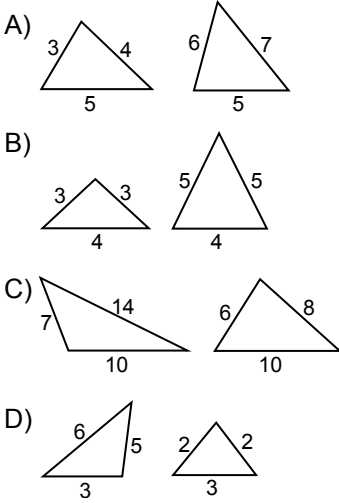
Şekilde ABCD eşkenar dörtgen ve $[OA] \perp [OC]$ 'tir.

$|AD| = 5$ cm ve $m(\widehat{ABC}) = 120^\circ$ olduğuna göre $|OC|$ kaç santimetredir?

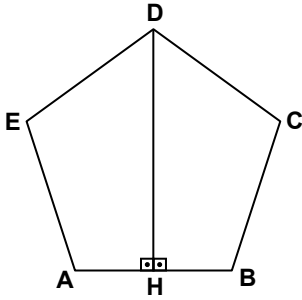
- A) 5 B) 4
C) $\frac{5}{2}\sqrt{3}$ D) $\frac{5}{3}\sqrt{3}$

3. OTURUM

18. Aşağıdakilerden hangisindeki üçgenlerin eşit uzunlukta olan kenarlarının birleştirilmesiyle bir deltoid oluşturulabilir?



19.



Şekildeki ABCDE düzgün beşgeninde $[DH] \perp [AB]$ 'tir. $|BH| = 2$ cm olduğuna göre ABCDE düzgün beşgeninin çevresi kaç santimetredir?

A) 15 B) 20 C) 24 D) 25

20. Bir iç açısının ölçüsü 108° olan düzgün çokgen kaç kenarlıdır?

A) 9 B) 8 C) 6 D) 5

(165) MATEMATİK – 5

$f : \mathbb{N}^+ \rightarrow \mathbb{R}$,

1. $f(n) = \frac{3n-5}{an-3}$

dizisinin 3. terimi 2 olduğuna göre a kaçtır?

A) $\frac{5}{2}$ B) $\frac{5}{3}$ C) $\frac{5}{4}$ D) 1

2. İlk terimi -10 ve ortak farkı 4 olan aritmetik dizinin genel terimi aşağıdakilerden hangisidir?

A) $4n - 14$ B) $2n - 10$
C) $-4n - 4$ D) $2n + 14$

3. Bir geometrik dizinin birinci terimi 24 ve ortak çarpanı $\frac{1}{2}$ olduğuna göre bu dizinin 3. terimi aşağıdakilerden hangisidir?

A) 3 B) 4 C) 5 D) 6

4. 1, 1, 2, 3, 5, K, 13, 21, L, 55, 89, ... Fibonacci dizisinde $K - L$ kaçtır?

A) -26 B) -28
C) -30 D) -34

5. Altı basamaklı 582 65C sayısı 2 ile bölünebildiğine göre C'nin alabileceği değerler toplamı kaçtır?

A) 8 B) 10 C) 16 D) 20

6. Dört basamaklı 142B sayısının 5 ile bölümünden kalan 3 olduğuna göre B'nin alabileceği değerler toplamı kaçtır?

A) 11 B) 8 C) 6 D) 3

7. Üç basamaklı 52A doğal sayısı 6 ile tam bölünmektedir.

Buna göre A'nın alabileceği değerler toplamı kaçtır?

A) 2 B) 6 C) 8 D) 10

8. 12 basamaklı 555 ... 55 sayısının 9 ile bölümünden kalan kaçtır?

A) 7 B) 6 C) 5 D) 4

9. 16, K, 256 sayılarının EKOK'u 256 olduğuna göre bu şartı sağlayan en büyük iki basamaklı K sayısı kaçtır?

A) 24 B) 36 C) 64 D) 96

10. a ve b aralarında asal sayılardır.

$\frac{a}{b} = \frac{28}{35}$ olduğuna göre $a + b$ kaçtır?

A) 9 B) 21 C) 37 D) 63

11. 50, 60 ve 100 kg'lık üç farklı pirinç çuvalı birbirine karıştırılmadan hiç artmayacak biçimde eşit miktarda torbalara doldurulacaktır.

Buna göre bu işlem için en az kaç torba gerekir?

A) 21 B) 24 C) 27 D) 35

12. Bir kitabın %30 indirimli fiyatı 21 liradır. Buna göre bu kitabın indirim yapılmadan önceki fiyatı kaç liradır?

A) 45 B) 42 C) 35 D) 30

13. Tuz oranı % 30 olan 10 litre tuzlu suya 5 litre saf su ilave edilirse karışımın tuz oranı yüzde kaç olur?

A) 10 B) 20 C) 25 D) 40

14. Celal 8 saatte bir A ilacını, 5 saatte bir B ilacını içmektedir.

İki ilacı salı günü sabah 07.00'de aldıktan sonra tekrar ne zaman iki ilacı birlikte alır?

A) Salı 20.00
B) Çarşamba 23.00
C) Çarşamba 16.00
D) Perşembe 02.00

3. OTURUM

(206) PSİKOLOJİ – 1

15. Ece maaşının tamamıyla A ürününden 100 tane alabiliyor.

Ece'nin maaşına % 20 kesinti, A ürününün fiyatına % 60 artış uygulanırsa Ece, bu A ürününden en fazla kaç tane alabilir?

A) 30 B) 40 C) 50 D) 60

16. Yıllık % 11 basit faizle bankaya yatırılan 5000 lira 5 yıl sonunda faiziyle birlikte kaç lira olur?

A) 5550 B) 6650
C) 7750 D) 8750

17. Yaş incir kurutulunca kütlesinin % 35'ini kaybetmektedir.

Buna göre 260 kg kuru incir elde etmek için kaç kilogram yaş incire ihtiyaç vardır?

A) 400 B) 380
C) 360 D) 320

18. 160 liranın tamamı 3 ve 5 yaşlarındaki kardeşler arasında yaşlarıyla doğru orantılı olacak şekilde paylaşılıyor.

Buna göre büyük kardeş, küçük kardeşten kaç lira fazla alır?

A) 100 B) 60 C) 40 D) 30

19. Sabit hızlı iki koşucudan biri 20 m koştuğunda, diğeri 17 m koşabiliyor.

Koşu pisti 300 m olduğuna göre aynı anda başlangıç noktasından hareket eden bu iki koşucudan hızlı olan koşuyu yavaş olandan kaç metre önde bitirir?

A) 30 B) 45 C) 60 D) 75

20. Bir işi iki işçiden biri tek başına 12 günde, diğeri tek başına 6 günde bitirmektedir.

Buna göre ikisi birlikte bu işi kaç günde bitirirler?

A) 8 B) 6 C) 5 D) 4

1. Aşağıdakilerden hangisinde eğitim psikolojisinin bulgularından faydalanılmaz?

A) Ruh hastalıklarının tedavisinde
B) Öğrenci öğretmen ilişkilerinde
C) Öğretim programlarının oluşturulmasında
D) Okul hayatının fiziki koşullarının düzenlenmesinde

2. Aşağıdakilerden hangisi psikoloji biliminin amacı olamaz?

A) İnsan davranışlarını kontrol etmek
B) Toplumların değişimini incelemek
C) İnsan davranışlarını anlamaya çalışmak
D) İnsanın çevresiyle uyum içinde olmasını sağlamak

3. I. Bilinçaltında bulunan düşünceler yok olmazlar.
II. Bilinçaltı düşünceleri rüya veya hayallerde ortaya çıkar.
III. Kişi istediği zaman bilinçaltındaki düşünceleri bilinç alanına çıkarabilir.

Freud'a göre, bilinçaltı düzeyindeki duygu ve düşüncelerimizle ilgili yukarıda verilen bilgilerden hangileri doğrudur?

A) I ve II B) II ve III
C) I ve III D) I, II ve III

4. Bu araştırma yönteminde olayın yeri, zamanı ve koşulları gözlemci tarafından karşılaştırılarak önceden hazırlanır. Olay başından sonuna kadar izlenerek kaydedilir.

Açıklaması verilen araştırma yöntemi aşağıdakilerden hangisidir?

A) Test
B) Deney
C) Güdümlü Gözlem
D) Vaka(Olay İncelemesi)

5. Sanki hiçbir uyarıcı almasak dinlenecekmiz gibi gelir. Oysa durum bunun tersidir. Yapılan araştırmalar savaş esirlerinin, günlerce denizlerde kalan tayfaların ruhsal çöküntü içerisine girdiklerini göstermiştir.

Bu durum organizma üzerinde hangisinin olumsuz etkisini gösterir?

A) Dengelenmenin
B) Aşırı uyarılmanın
C) Duyarsızlaşmanın
D) Yetersiz uyarılmanın

6. Herhangi bir davranıştan öğrenme diye bahsedebilmemiz için, doğuştan gelmemesi ,sürekli olması ve mevcut davranışta bir değişme meydana getirmesi gerekir.

Buna göre aşağıdaki davranışlardan hangisi öğrenilmiştir?

A) Acıkmak
B) Hapşırma
C) Göz kırpmak
D) Bisiklet sürmek

7. Öğrenmede zihin ve tüm canlılık fonksiyonları uyarılmış olmalıdır. Her ne kadar uykuda öğrenme olduğu ileri sürülse de, öğrenme miktarı yetersizdir. Öğrenmenin verimli olması zihnin tamamen uyanık olmasına bağlıdır.

Yukarıda öğrenmenin gerçekleşmesinde hangisinin öneminden bahsedilmektedir?

A) Büyüme
B) Olgunlaşma
C) Genel uyarılmışlık hali
D) Türe özgü hazır olma

3. OTURUM

8. “Edimsel koşullanmada organizma, sonucunda ödül aldığı davranışlara yönelir.”

Buna göre aşağıdakilerden hangisi edimsel koşullanmaya örnek olabilir?

- A) Bir problemin çözümünün aniden bulunması
B) Bir çocuğun babası gibi konuşmaya çalışması
C) Bilet aldığı halde ikramiye çıkmayan birinin almaya devam etmesi
D) Bir şiir yarışmasında ödül alan öğrencinin sonraki yıl da yarışmaya katılmak istemesi

9. “ Davranış →Dürtü→ Gudu→ İhtiyaç →Doyum”

Yukarıda güdülenme sürecinin sıralaması yanlış olarak verilmiştir. Sıralamanın doğru olması için hangi iki kavram yer değiştirmelidir?

- A) Dürtü-İhtiyaç
B) Davranış –Dürtü
C) Davranış-İhtiyaç
D) Davranış-Güdü

10. “Aç olan birinin, onlarca mağaza içinden öncelikle lokantaları algılaması” **algıyla ilgili kavramlardan hangisine örnek olur?**

- A) Algıda derinlik
B) Algıda seçicilik
C) Algı yanılması
D) Algıda değişmezlik

11. İllüzyonda var olan bir nesne farklı algılanırken, halüsinasyonda olmayan bir nesne varmış gibi algılanır.

Buna göre aşağıdakilerden hangisi hallüsinasyona örnektir?

- A) Yerdeki bez parçasının fare olarak algılanması
B) Çay bardağına batırılmış kaşığın kırık görünmesi
C) Karanlıkta yerdeki ip parçasının yılan olarak algılanması
D) Kocası ölen kadının karşısında kocası varmış gibi sohbet etmesi

12. • Benimsediğimiz düşüncelere uygun şeyleri kolay algılarız.
• Karnımız aç olduğunda yiyecekleri daha lezzetli algılarız.
• Sevdiğimiz birinin iyi yönlerini gözümüzde büyüterek algılarız.

Yukarıda algıyı etkileyen iç etmenlerin hangisinden bahsedilmemiştir ?

- A) Telkin B) Tutumlar
C) İhtiyaçlar D) Duygular

13. **Organizmaya etki eden, duyu organlarını harekete geçiren her türlü etkiye ne ad verilir?**

- A) Canlı B) Tepki
C) Uyarıcı D) Davranış

14. **Aşağıdakilerden hangisi belleğin temel işlemlerinden biridir?**

- A) Kodlama B) Hipnoz
C) Refleks D) Dengelenme

15. Çoğu zaman çocukların, anne babaları ya da öğretmenleri gibi davranmaya çalıştıkları görülür.

Bu durum özellikle hangi öğrenme türüne örnek oluşturur?

- A) Motor öğrenme
B) Bilişsel öğrenme
C) Model alarak öğrenme
D) Koşullanma yoluyla öğrenme

16. Öğrenmenin verimli olması sadece öğrenen kişiye değil, öğrenilecek konunun özelliklerine de bağlıdır.

Öğrenilecek konunun taşıdığı hangi özellik öğrenmeyi olumsuz etkiler?

- A) Anlamlı olması
B) Öğrenenin ihtiyacını karşılamaması
C) Çok uzun olmaması
D) Öğrenenin zihin ve beden gelişimine uygun olması

17. “Siyah köpekten korkan bir çocuğun tüm siyah hayvanlardan, hatta siyah olan her şeyden korkar hale gelmesi” **koşullanmayla ilgili hangi durumu örnekler?**

- A) Koşullanmanın sönmesi
B) Koşullanmanın genellenmesi
C) Koşullanmanın canlanması
D) Koşullanmanın pekiştirilmesi

18. **Aşağıdaki özelliklerden hangisi yaratıcı insanlarda bulunmaz?**

- A) Kararlı olma
B) Şüpheli olma
C) Hükümlerinde bağımlı olma
D) Yeni deneyimlere açık olma

19. **Aşağıdakilerden hangisi alkol, uyuşturucu gibi maddelerin bireysel zararlarındandır?**

- A) Kişinin ruh sağlığını bozması
B) Boşanma oranlarını artırması
C) Toplumda iş gücü kaybına yol açması
D) Saldırganlığa bağlı suç oranını artırması

20. **Dilin öğrenilmesinde aşağıdaki faktörlerden hangisinin olumsuz etkisi vardır?**

- A) Sevgi ve güvenlik içinde olma
B) Yeterli zeka düzeyine sahip olma
C) Tutarlı bir disiplin anlayışı içinde yetişme
D) Düzgün olmayan konuşma örnekleriyle karşılaşma

(209) SOSYOLOJİ – 2

1. Kültürün bir özelliği de geçmişi geleceğe bağlamasıdır. Böylece kültürel mirasın birtakım yenilikler eklenerek gelecek kuşaklara devredilmesiyle toplumsal süreklilik sağlanmış olur.

Parçada kültürün hangi özelliğinden bahsedilmektedir?

- A) Kuşaktan kuşağa aktarılması
B) Kültürün değişime uğramaması
C) Toplumların ayırt edici özelliğinin olması
D) Her toplumun kendine özgü kültürel değerleri olması

3. OTURUM

2. Bir toplumda kitle iletişim araçları hızla değişirken buna uygun davranış kalıplarının oluşumu daha yavaş olmaktadır.

Bu durum kültürle ilgili aşağıdaki yargılardan hangisini destekler?

- A) Kültür hem öğrenilir hem öğretilir.
B) Maddî öğeler manevî öğelerden daha hızlı değişir.
C) Kültürler toplumsal varlık alanında var olurlar.
D) Kültür, içerdiği özelliklerle bir toplumu kendine özgü kılar.

3. Bireyin doğumdan ölüme kadar toplumun istek ve beklentilerine uyacak şekilde etkilenmesi ve değiştirilme sürecidir.

Tanımı verilen kültürel süreç aşağıdakilerden hangisidir?

- A) Kültürel asimilasyon
B) Kültür emperyalizmi
C) Kültürel yozlaşma
D) Kültürleme

4. Aşağıdakilerden hangisinde toplumsal kurumlara ait olan maddî ve manevî kültür öğeleri yanlış verilmiştir?

	KURUM	MADDİ KÜLTÜR ÖGESİ	MANEVİ KÜLTÜR ÖGESİ
A)	Aile	Konut	Medeni kanun
B)	Eğitim	Okul	Okul kuralları
C)	Siyaset	Hukuk kuralları	Parlamento
D)	Din	Cami	Dini kurallar

5. Ailenin anaerkil ve ataerkil olarak sınıflandırılması hangi ölçüte göre yapılmıştır?

- A) Otoritenin kullanım biçimi
B) Eşin seçildiği grup
C) Eş sayısı
D) Oturulan yer

6. Bireylerin eşlerini, üyesi oldukları toplumsal grubun içinden seçme zorunluluğu şeklinde oluşan evlilik türü aşağıdakilerden hangisidir?

- A) Ekzogami B) Endogami
C) Monogami D) Poligami

7. Aşağıdakilerden hangisi modern ailenin özelliklerindedir?

- A) Çok eşlilik yaygındır.
B) Baba mutlak bir otoriteye sahiptir.
C) Akrabalık kadın soyuna dayanır.
D) Evlilik hukuk kurallarıyla gerçekleştirilir.

8. Doğadaki tüm varlıkların canlı bir ruha sahip olduğu ve tüm evrenin ruhlarla yönetildiği düşüncesi hangi dini anlayışa aittir?

- A) Politeizm B) Animizm
C) Fetişizm D) Natürizm

9. Aşağıdakilerden hangisi dinin bireysel işlevlerindedir?

- A) İnananlar arası dayanışmayı artırması
B) Toplumsal düzeni sağlamaya çalışması
C) İnsanlar arası yardımlaşmayı artırması
D) Bireyi günlük kaygılarından uzaklaştırması

10. Aşağıdakilerden hangisi sadece ekonomik malda bulunan bir özelliktir?

- A) Doğada kendiliğinden bulunması
B) Elde edilmesi için bir çaba gerektirmemesi
C) Elde edilmesinin emek ve maliyete dayanması
D) Hava, güneş gibi insan ihtiyaçlarını doğrudan karşılaması

11. I. Üretim araçlarının mülkiyeti devletin elindedir.
II. Üretim araçlarının mülkiyeti bireylerin elindedir.
III. Üretimde temel amaç kar etmektir.

Verilenlerden hangisi Sosyalist Ekonomik Sistem'in özelliklerindedir?

- A) Yalnız I B) Yalnız II
C) I ve III D) II ve III

12. Cumhurbaşkanı ile birlikte yürütmeyi oluşturan ve yürütme görevini devlet adına gerçekleştiren organ aşağıdakilerden hangisidir?

- A) Meclis B) Hükümet
C) Sivil toplum D) Siyasi parti

13. Farklı toplumsal grup ya da sınıftan insanı içine alan partiler dikey yapılı, bir grubun ya da toplumsal sınıfın çıkarını savunmak için kurulan partiler ise yatay yapılı partilerdir.

Buna göre aşağıdakilerden hangisi dikey yapılı partiye örnek teşkil eder?

- A) İşçi partileri
B) Çiftçi partileri
C) Liberal partiler
D) İşveren partileri

14. Nispi temsili sisteminin temel özelliği partilerin aldıkları oy oranına göre parlamentoda temsil edilmesidir.

Buna göre aşağıdakilerden hangisi nispi temsili sistemine ait bir özelliktir?

- A) Kanunen kurulmuş her partinin seçime katılamaması
B) Partilerin kendilerini destekleyen seçmen oranına göre parlamentoda temsil edilmesi
C) Seçim bölgelerinde en fazla oy alan siyasi partinin bütün milletvekillerini kazanması
D) İlk turda yüzde elliye aşamayan en yüksek oyu alan iki partinin ikinci tura katılması

3. OTURUM

15. Aşağıdakilerden hangisi demokratik bir yönetim için söylene-
mez?

- A) Halk egemenliğine dayalıdır.
- B) Güçler ayrılığı ilkesi ilkesi hakimdir.
- C) Eşitlik, özgürlük ve adalet ölçütlerine dayanır.
- D) Temel hak ve özgürlükler önemli değildir.

16. Doğa, toplum ve insan sürekli değişim halindedir. Değişimin olmadığı bir toplum düşünülmez ancak değişimin hızı zaman içerisinde ve toplumdan topluma farklılık gösterebilir.

Aşağıdakilerden hangisi parçada anlatılana uygunluk göstermez?

- A) Toplumların değişim hızı aynı değildir.
- B) Toplumlar için değişim kaçınılmazdır.
- C) Gelişmiş toplumlarda değişimden bahsedilemez.
- D) Bir toplumdaki değişim hızı zamana göre değişebilir.

17. Toplumların kendiliğinden ve herhangi bir müdahale olmadan değişimini ifade eden, plana ve programa tabi tutulmayan toplumsal değişim tipi aşağıdakilerden hangisidir?

- A) Serbest sosyal değişim
- B) Müdahale yoluyla sosyal değişim
- C) Demokratik planlı değişim
- D) Baskı yolu ile değiştirme

18. Orta tabakanın genişletilmesinde aşağıdakilerden hangisinin katkısı yoktur?

- A) Adil vergi politikalarının uygulanması
- B) Eğitim hizmetlerinin eşit ve kaliteli sağlanması
- C) Sosyal güvenlik kapsamının daraltılması
- D) Toplumun refah seviyesinin yükseltilmesi

19. Aşağıdakilerden hangisi toplumsal çözülmenin nedenleri arasında değildir?

- A) İşbölümü yetersizliği
- B) Örgütlenme yetersizliği
- C) Milli birlik bilincinin zayıflaması
- D) Bireylerde demokrasi bilincinin gelişmesi

20. Aşağıdakilerden hangisi toplumsal değişmeye neden olan Tanzimat öncesi ıslahat hareketlerindedir?

- A) Yeniçeri ocağının kaldırılması
- B) Kanun-ı Esasi'nin ilan edilmesi
- C) Soyadı Kanunu'nun çıkarılması
- D) Medeni Kanun'un kabul edilmesi

(242) İNGİLİZCE – 3

1 - 20. sorularda boş bırakılan yere uygun gelen kelime ya da ifadeyi işaretleyiniz.

1. I always - - - - my teeth before I go to bed.

- A) brush
- B) play
- C) like
- D) go

2. - - - - you wake up early in the mornings?

- A) Does
- B) Are
- C) Do
- D) Is

3. - - - - uncle lives in Amasya.

- A) I
- B) His
- C) She
- D) They

4. - - - - book is thick. I can't read it in one day.

- A) The
- B) An
- C) Some
- D) A lot of

5. - - - - is my friend Cengiz.

- A) Those
- B) These
- C) Their
- D) This

6. Özkan is a - - - - at a secondary school in Burdur. He teaches English.

- A) nurse
- B) doctor
- C) teacher
- D) bus driver

7. - - - - your mother cleaning the kitchen now?

- A) Is
- B) Do
- C) Are
- D) Does

8. He can't speak with you. He is driving - - - - .

- A) every day
- B) at the moment
- C) at the weekends
- D) in the afternoons

9. My brothers like - - - - jobs very much.

- A) mine
- B) their
- C) ours
- D) hers

10. I'm very busy. I haven't got - - - - time.

- A) no
- B) many
- C) never
- D) much

11. I bought the tickets. We are going to - - - - to Madrid.

- A) fly
- B) study
- C) drink
- D) meet

12. I am going to have an important exam - - - - .

- A) usually
- B) right now
- C) tomorrow
- D) sometimes

13. It is sunny - - - - hot today.

- A) so
- B) and
- C) but
- D) for

14. What will you drink, coffee - - - - tea?

- A) nor
- B) yet
- C) but
- D) or

3. OTURUM

15. My car is - - - - but very comfortable.

- A) stingy B) cheap
C) rich D) good

16. A: - - - - brothers have you got?

B: Two.

- A) How many B) Who
C) What D) Where

17. A: - - - - do you do your homework?

B: In the evenings.

- A) How B) Why
C) When D) Which

18. A: - - - - house is this?

B: It is my sister's house.

- A) How often B) What time
C) Whose D) What

19. A: - - - - ?

B: I'm going to read a book.

- A) When are you going to study
B) Who are you going to meet
C) Where are you going to go
D) What are you going to do

20. A: - - - - do your lessons start?

B: At 8 o'clock.

- A) What time B) Why
C) Which D) How

(242) ALMANCA – 3


1-17. sorularda boş bırakılan yere uygun gelen kelime ya da ifadeyi işaretleyiniz.

1. - - - - sitzt Mehmet?

Neben - - - - Fenster (das Fenster, Dativ)

- A) Wo / dem B) Wohin / die
C) Wo / die D) Wohin / den

2.



Ali schläft im - - - - .

- A) Tisch B) Bett
C) Stuhl D) Tasche

3. Ich gehe morgens früh - - - - / - - - - Schule.

- A) zu / dem B) auf / den
C) in / die D) in / das

4. Hasan fährt - - - - München - - - - seinem Großvater.

- A) von / nach B) zu / von
C) bis / um D) nach / zu

5. A: Woher kommen diese Touristen her?

B: - - - - Belgien.

- A) Um B) Bis
C) Zu D) Aus

6. A: - - - - fährt Sabine nach Stuttgart?

B: Ich glaube am Samstag.

- A) Wann B) Woher
C) Womit D) Warum

7. Ein guter Tänzer kann sehr gut - - - - .

- A) tanze B) spiele
C) tanzen D) spielen

8. Ein jung- - - - - Mann spielt mit der Gitarre. (Nominativ)

- A) -es B) -en
C) -e D) -er

9. Die klein- - - - - Kinder schwimmen im Schwimmbad.

- A) -es B) -en
C) - D) -er

10. Du - - - - nicht mit dem Flugzeug nach Istanbul fliegen.

Du musst mit dem Bus fahren.

- A) kann B) ist
C) wirst D) müssen

11. Ich schlafe jeden Abend - - - - 22 Uhr.

- A) um B) bei C) ins D) am

12. Sie geht jeden Tag - - - - 08.00 Uhr - - - - Arbeit.

- A) um / in B) zur / um
C) auf / zur D) um / zur

13. A: Was wirst du am Wochenende machen?


B: Ich werde meine Tante - - - - .

- A) schlafen B) besuchen
C) fährt D) kommen

14. A: Was machte Paul um 15 Uhr?
B: Er - - - - nach Hause. (fahren)

- A) fahren B) fuhr
C) gefahren D) fahre

15.



A: Wie spät ist es?

B: Es ist - - - - .

- A) sieben Uhr
B) halb sieben
C) halb acht
D) viertel nach sieben

3. OTURUM

16. A: Wohin gehen Sie?
B: Ich gehe - - - - Kino.

- A) zu das B) in das
C) von das D) aus das

17. A: Woher kommen Sie?
B: Ich komme - - - - Berlin.

- A) aus B) vom
C) zum D) bis

18. Kurallı bir cümle yapınız.

Ali und Markus / Döner / essen
1 2 3

heute
4

- A) 1 / 2 / 3 / 4 B) 2 / 4 / 1 / 3
C) 1 / 3 / 4 / 2 D) 2 / 1 / 4 / 3

19. Aşağıdaki sözcüklerden hangisinin Türkçe karşılığı yanlış verilmiştir?

- A) Der Füller = dolma kalem
B) Die Brille = gözlük
C) Die Tasche = çanta
D) Das Kleid = pantolon

20. Aşağıdaki kelimelerden hangisinin Almanca karşılığı yanlış verilmiştir?

- A) şarkı söylemek = lesen
B) çalışmak = arbeiten
C) unutmak = vergessen
D) getirmek = bringen

(242) FRANSIZCA – 3

1 - 15. sorularda boş bırakılan yere uygun gelen kelime ya da ifadeyi bulunuz.

1. M. Bertrand, - - - - êtes libre samedi après-midi?

- A) il B) elles
C) nous D) vous

2. - - - - est tombée dans l'escalier mardi matin.

- A) Elle B) Je C) Tu D) Il

3. Albert - - - - travaille dans une agence organise des voyages en Extrême-Orient.

- A) dont B) que
C) qui D) où

4. Ma fille va dans une bonne école - - - - elle a beaucoup d'amis.

- A) qui B) où
C) dont D) donc

5. Je déteste le parfum - - - - elle met.

- A) que (qu') B) où
C) qui D) dont

6. - - - - elle est seule à la maison, Claire a peur.

- A) Comment B) Combien
C) Quand D) Pourquoi

7. Paul a quitté son pays pour s'installer en Italie - - - - six mois.

- A) au B) il y a
C) aux D) dans

8. Patrick aime faire de la - - - - en Cappadoce.

- A) ski B) randonnée
C) tennis D) football

9. - - - -, Nadine et Stéphane sont revenus de Nice.

- A) Demain
B) Hier soir
C) Mardi prochain
D) Pendant

10. L'acteur - - - - vous parlez est né dans mon village.

- A) qui B) que C) dont D) où

11. Les élèves boivent de la limonade - - - - du gâteau au chocolat.

- A) manger B) en écoutant
C) écouter D) en mangeant

12. La jeune femme - - - - des lunettes rouges est pianiste à l'opéra.

- A) portant B) en marchant
C) marcher D) porter

13. Antoine fait des petites réparations à la maison en - - - - .

- A) conduisant B) voyageant
C) chantant D) dormant

14. Esra et Hasan vont - - - - l'aéroport - - - - taxi.

- A) à / en B) en /aux
C) à / au D) au / en

15. Pour acheter du fromage, elle va à - - - - .

- A) la piscine
B) la crèmerie
C) la mairie
D) la bibliothèque

16. "Ma tante et ma cousine nous attendent pour le dîner." cümle-sinde altı çizili sözcüklerin yerine aşağıdaki şahıs zamirlerinden hangisi konulabilir?

- A) Nous B) Vous
C) Ils D) Elles

17 - 18. sorularda verilen cümlelerin Türkçe karşılığını işaretleyiniz.

17. Les enfants ont cassé les vitres de ma chambre en jouant au foot.

- A) Çocuklar pencereden futbol oynayanlara bakıyorlar.
B) Çocuklarla okulun bahçesinde futbol oynadık.
C) Çocuklar futbol oynarken odamın camlarını kırdılar.
D) Futbol oynarken bacağı kırılan çocuk acı çekiyordu.

3. OTURUM

18. Léa chante en préparant le repas.

- A) Akşam yemeğini hazırlayan Léa dışarı çıktı.
- B) Léa yemek hazırlarken radyo dinliyor.
- C) Léa yemek yerken gazete okuyor.
- D) Léa yemek hazırlarken şarkı söylüyor.

19 - 20. sorularda verilen cümlelerin Fransızca karşılığını işaretleyiniz.

19. Komşum bahçede ağlayan oğluyla konuşuyor.

- A) Je vois un enfant jouant dans la rue.
- B) Mon voisin parle avec son fils pleurant dans le jardin.
- C) Mon voisin joue avec son fils dans le jardin.
- D) Il voit son fils pleurant dans la rue.

20. Alışveriş yaparken çocukluk arkadaşşıma rastladım.

- A) J'ai rencontré mon ami d'enfance en faisant les courses.
- B) Mon ami a fait les courses cet après-midi.
- C) J'ai rencontré mon ami faisant les courses.
- D) J'ai fait les courses avec mon ami d'enfance.

(403) DİL VE ANLATIM – 3

1. Muzaffer Öğretmen, sosyal bilgiler dersinde öğrencisiyle aşağıdaki şekilde bir iletişim gerçekleştirmiştir:

Muzaffer Öğretmen: Osmanlı Devleti'nin kuruluş tarihini kim söyleyecek?

Aslı: 1299'da kurulmuştur öğretmenim.

Muzaffer Öğretmen: Aferin!

Bu iletişim örneğiyle ilgili aşağıdaki eşleştirmelerden hangisi yanlıştır?

- A) Alıcı – Aslı
- B) Dönüt – Osmanlı Devleti'nin kuruluş tarihini kim söyleyecek?
- C) Gönderici – Muzaffer Öğretmen
- D) Bağlam – Sınıf

2.

I.	Kullanma kılavuzları	Alıcıyı harekete geçirme işlevi
II.	Söylev	Sanatsal işlev
III.	Ünlem cümleleri	Heyecana bağlı işlev
IV.	Ders kitapları	Göndergesel işlev

Yukarıdaki tabloda dilin işlevlerinin kullanıldığı yerlerle ilgili yapılan numaralanmış eşleştirmelerden hangisi yanlıştır?

- A) I. B) II. C) III. D) IV.

3. I. Sunumu yapan konuşmacı, dinleyicilerin soru sormalarına müsaade etmelidir.
II. Sunumun hazırlığında bol ve değişik kaynaktan yararlanmalıdır.
III. Konuşmacı, kelimeleri doğru telaffuz etmeye özen göstermelidir.
IV. Sunum yerinin önceden görülmesi gerekir.

Yukarıda numaralanmış cümlelerden hangileri sunumdan önce yapılması gerekenleri ifade etmektedir?

- A) I ve II. B) I ve III.
C) II ve III. D) II ve IV.

4. Aşağıdakilerden hangisi tartışmanın sağlıklı şekilde yürütülmesi için yapılması gerekenlerden değildir?

- A) Tartışmayı yönetecek, konuşmacılara söz hakkı verecek bir başkan seçilmelidir.
- B) Konuşmacılar, konuşmalarında sözlü ifade kurallarına dikkat etmeli; açık ve anlaşılır bir dille, kısa cümlelerle fikirlerini ifade etmelidir.
- C) Tartışılacak konu tartışmadan önce değil, tartışmanın başında başkan tarafından konuşmacılara bildirilmelidir.
- D) Konuşmacı, diğer katılımcılar tarafından sabırla dinlenmeli; söylenenler hoşgörülle karşılanmalıdır.

5. I. Açık oturumla panel birbirine çok benzese de arada üslup farkı vardır.
II. Panelin sonunda dinleyicilerden soru alınmaz.
III. Panelde konuşmacı sayısı 3 ila 6 arasında değişebilir.
Panelle ilgili numaralanmış cümleler doğru(D)-yanlış(Y) olarak değerlendirildiğinde sıralama aşağıdakilerden hangisi olur?

- | | | | |
|----|---|----|-----|
| | I | II | III |
| A) | D | Y | D |
| B) | Y | Y | D |
| C) | D | D | Y |
| D) | Y | D | Y |

6. Aşağıdakilerden hangisi not alırken dikkat edilmesi gerekenlerden biri değildir?

- A) Parçadaki anahtar sözcükler çok iyi seçilmelidir.
- B) Paragraflardaki düşünceler kendi sözcüklerimizle yeniden yazılmalıdır.
- C) Anlamı bilinmeyen sözcükler için sözlüğe başvurulmalıdır.
- D) Paragraflardaki düşünceler derinliğine, sınırlandırılmadan yazılmalıdır.

7. - - -, bir yazının temel özelliklerini, anlatmak istediklerini bozmadan kısaltarak yeniden yazmaktır. **Bu cümlede boş bırakılan yere aşağıdakilerden hangisi getirilmelidir?**

- A) Alıntı yapmak
- B) Özet çıkarmak
- C) Not almak
- D) Rapor yazmak

8. Gümüş bir dumanla kapandı her yer. Yer ve gök bu akşam yayla dumanı Sürüler, çimenler, sarı çiçekler Beyaz kar, yeşil çam, yayla dumanı **Bu dörtlüğün konusu aşağıdakilerden hangisidir?**

- A) Aşk
- B) İnsan sevgisi
- C) Doğa sevgisi
- D) Yalnızlık

3. OTURUM

9. Aşağıdaki konulardan hangisi diğerlerine göre daha çok sınırlandırılmıştır?

- A) Anonim halk edebiyatında çocuk
- B) Türk edebiyatında çocuk
- C) Halk edebiyatında çocuk
- D) Edebiyatta çocuk

10. Halk arasında "Birgi Dede" adıyla anılan İmam-ı Birgivi, Osmanlı Türklerinin 16. yüzyıldaki en önemli âlimlerindedir. 27 Mart 1523'te Balıkesir'de doğan Birgi Dede'nin asıl adı Mehmed'dir. Eğitime baba-sı Pîr Ali Efendi'den Kuran ve mantık dersleri alarak başladı. Yükseköğrenimini İstanbul'da Mahmud Paşa Medresesinde tamamladı. Burada Şemseddin Ahmet Efendi'den dersler aldı. **Bu parçanın anlatım biçimi aşağıdakilerden hangisidir?**

- A) Öyküleme
- B) Tartışma
- C) Betimleme
- D) Açıklama

11. En yalın tanımıyla - - - -, sözcüklerle resim çizme işidir. Varlıkların niteliklerini, bu niteliklerin duyular üzerinde uyandırdığı izlenimleri belirtmez. **Bu parçada boş bırakılan yere aşağıdakilerden hangisi getirilmelidir?**

- A) öyküleme
- B) açıklama
- C) tartışma
- D) betimleme

12. (I) Erzurum fidanlığı ülkemizde huş üretimi yapan yerlerden biri. (II) Buradaki fidanlara dünyaca ünlü ve etkileyici huşlu yoldan geçilerek ulaşıyor. (III) Yaygın olarak ilk defa burada yetiştirilen huşlar Türkiye'nin diğer yörelerine gönderiliyor. (IV) Fidanlıkta ağaçlandırma çalışmalarında kullanılmak üzere 400 binin üzerinde huş fidanı bulunduruluyor. **Bu parçada numaralanmış cümlelerin hangisinde öznel bir yargı vardır?**

- A) I.
- B) II.
- C) III.
- D) IV.

13. Aşağıdaki metinlerin hangisinde üçüncü kişi anlatımı kullanılmıştır?

- A) Evet, eziliyordum karşında, utanç duyuyordum ama öfkeleliyordum da... Ne kadar kibirli bir insan olmuştun sen böyle, ne kadar bencil, ne kadar vurdumduymaz...
- B) Artık emindim, katiyetle tanıyordu Mehmed Esad'ı. Belki buraya geliş maksadını da biliyordu. Ama benimle paylaşmak istemediğini anlamıştım.
- C) Araba inişli yokuşlu dağ yoluna girmişti. Kâh kurumuş sel çukurlarından geçiyor kâh boş tarlaların, bozulmuş bağların kenarlarını takip ediyordu. Şoför Ayhan emekliliğine gün sayarken neler yapılabileceğini düşünüyordu.
- D) Senelerden beri leylek görmüyordum. Hatta bu kanatlı yaz seyyahlarının son senelerde İstanbul'a az uğradığı herkesin dikkatini çekmişti. Bunun nedenini dün öğrendim.

14. Onun pek çok öyküsünü okudum. Sanatçının konu bulmada sıkıntısı yok. Olay kurgusunu çok sağlam oluşturmuş. Ama onun öykülerinin asıl dikkati çeken özelliği ifade mükemmelliği. Anlatım o kadar doğal ve kolay akıyor ki onun eserlerini okuduğunuzda zamanın nasıl geçtiğini anlayamıyorsunuz. Anlatımının bu özelliği sanırım onu çağdaşlarından bir adım öne çıkarıyor.

Bu parçadaki yazarın sözü edilen anlatım özelliği aşağıdakilerden hangisidir?

- A) Akıcılık
- B) Özlülük
- C) Tutarlılık
- D) Açıklık

15. Bu ülke bana yeni olanaklar, imkânlar sunamadı.

Bu cümledeki anlatım bozukluğunun sebebi aşağıdakilerden hangisidir?

- A) Yanlış anlamda sözcük kullanımı
- B) Gereksiz sözcük kullanımı
- C) Sözcüğün yanlış yerde kullanımı
- D) Çelişen sözcüklerin bir arada kullanımı

16. Deyimler kalıplaştıkları için deyimlerin hiçbir sözcüğü değiştirilemez. **Aşağıdaki cümlelerin hangisinde bu kurala uyulmamasından kaynaklanan bir anlatım bozukluğu vardır?**

- A) O günkü gazetelere şöyle bir göz atıp kahvaltıya geçtim.
- B) Annemin sözleri açıkçası biraz canımı sıkmıştı.
- C) Kardeşimin burnu sürtmüş, aklı başına gelmişti artık.
- D) Bu korkunç manzara karşısında saçlarımız diken diken olmuştu.

17. Aşağıdakilerden hangisi alışılmış bağdaştırmaya örnektir?

- A) Çatlayan dudak
- B) Solan gençlik
- C) Pembe hayaller
- D) Ağlayan zaman

18. I. Dil, alıcıyı harekete geçirme işlevinde kullanılır.
II. Telkin, öneri anlamı taşıyan ifadeler yer verilir.
III. Trafik kuralları, kullanma kılavuzları bu anlatımla oluşturulur.

Numaralanmış bu özellikler aşağıdaki anlatım türlerinin hangisine aittir?

- A) Emredici anlatım
- B) Söyleşmeye bağlı anlatım
- C) Mizahi anlatım
- D) Gelecekte söz eden anlatım

19. - Çocuk hasta mı?
- Hayır!
- Niçin mektebe gelmiyor?
- Mektep tatil değil mi?
- Ne münasebet! Bunu kim söyledi?
- O!

Bu metinde kullanılan anlatım türü aşağıdakilerden hangisidir?

- A) Tartışmacı anlatım
- B) Öğretici anlatım
- C) Söyleşmeye bağlı anlatım
- D) Gelecekte söz eden anlatım

20. Aşağıdakilerden hangisi bir paragrafın giriş cümlesi olamaz?

- A) Dil, canlı bir varlıktır; sürekli değişir, dönüşür ve gelişir.
- B) Dil, kültürümüzün devamlılığını da sağlar.
- C) Dil, kültürün taşıyıcısı ve geliştiricisidir.
- D) Milletleri bir araya getiren ve bir arada tutan dildir.

3. OTURUM

(405) DİL VE ANLATIM – 5

1. Kasırganın kıyıları dövdüğü, dağları devirdiği saatte Antalya'ya yukarıdan bakan vadilerin birinde, Alakır'da, önemli bir buluşmanın konukları bekleniyordu. Sarıkeçililerin uzak yaylalardan getirdiği kara çadır henüz dertoptu. Kasırganın dinmesi gerekiyordu. Alakır'ın tepesine ulaştığımda gerdirmeleriyle âdeta bir Anadolu haritasına benzeyen kıl çadır kurulmuş, bütün görkemiyle vadiye bakıyordu.

Bu parça için aşağıdakilerden hangisi söylenemez?

- A) Olay çevresinde oluşan metne örnektir.
- B) Olay, kişi, mekân öğelerine yer verilmiştir.
- C) Öğüt verme amacıyla yazılmıştır.
- D) Mecaz anlamlı kelimeler kullanılmıştır.

2. Aşağıdaki parçalardan hangisi öğretici metne örnektir?

- A) Karanlık çökmüş olmasına rağmen ortalık hâlâ sıcaktan kavruluyordu. Ne bir rüzgâr ne bir esinti. Belki Taksim Bahçesi esintili olur diyordum ama ağaçlarda tek bir yaprak bile kıvıldamıyordu. Yine de denize bakan terasta bir masaya oturdum.
- B) Değişik yörelerdeki bahçelerden yılın değişik zamanlarında toplanan çaylar birbirinden az çok farklıdır. Paketlenmiş çayların aynı lezzette olmasını sağlamak için bu değişik nitelikteki çayların karıştırılması gerekir.
- C) Bizim heyet içeri girdikten sonra kapandı kapı. Ne var ki sofadan geçerek sadaret makamına giderken iki nöbetçi dikildi önümüzde. Neler olup bittiğini anlamamışlardı.
- D) Muhtar Bey duymadı bile bu sözleri, kışlaya yürüdü. Dördümüzün de bakışları onun üzerindeydi; nefesimizi tutmuş, bu cesur zabiti izliyorduk. Önce adımları tereddütlüydü, sonra kendine güveni geldi.

3. I. Halk hikâyesi – Anlatmaya bağlı edebî metin
II. Trajedi – Göstermeye bağlı edebî metin
III. Gezi yazısı – Gazete çevresinde gelişen metin
IV. Deneme – Kişisel hayatı konu alan metin

Yukarıdaki numaralanmış eşleştirmelerin hangilerinde yanlışlık yapılmıştır?

- A) I ve II. B) I ve IV.
- C) II ve III. D) III ve IV.

4. Sevgili Özgeciğim,
Mektubunu bu sabah aldım. Bana böyle uzun ve güzel bir mektup yazdığın için teşekkür ederim. Ahmet Mithat Efendi - Hüseyin Rahmi hikâyesini de çok beğendim. Yalnız bazı yerlerinde -heyecandan olacak- kelimeleeri eksik ya da fazla yazmışsın. Bunlar önemli değil, asıl dil bilgisi kurallarında hata yapıyorsun; benim kızımın yazılarında böyle şeyler olmamalı.

...
17 Mayıs 1977 Oğuz Atay

Bu mektubun planında yapılan yanlışlık aşağıdakilerden hangisiyle düzeltilir?

- A) Hitap ifadesi başta değil, sonunda olmalıdır.
- B) Mektubu yazanın adı sağ alt köşede değil, sol üst köşede olmalıdır.
- C) Mektubun yazıldığı tarih sol alt köşede değil, sağ üst veya sağ alt köşede olmalıdır.
- D) Mektupta tarih yazılmamalıdır.

5. Edebî mektupla ilgili aşağıdakilerden hangisi yanlıştır?

- A) Bu mektup türü aynı zamanda resmî mektup olarak da adlandırılır.
- B) Dil ve anlatım açısından sanat değeri taşır.
- C) Edebiyatçıların birbirlerine yazdıkları ve edebî düşüncelerini aktardıkları mektuplardır.
- D) Bu mektuplar belge niteliği taşıması bakımından önemlidir.

6. • Bir kişinin duygu ve gözlemlerini düzenli bir biçimde tarih atarak yazdığı yazılardır.
• Yazan kişinin yazmak istediklerinden oluşur, okuyucu düşünülerek yazılmaz.

Bu özellikler aşağıdaki türlerden hangisine aittir?

- A) Sohbet B) Gezi yazısı
- C) Otobiyografi D) Günlük

7. Bu türdeki yazılarımda kendimi serbestçe ifade etmenin getirdiği bir rahatlık hissediyorum. Kendi kendimle konuşur gibi yazdığım için cümlelerim samimi ve akıcı oluyor ister istemez. Hele ki istediğim her konuyu ele alabilmenin özgürlüğü... İşte onu hiçbir şeye değişmem.

Bu parçada yazarın "bu türdeki yazılarımda" dediği tür aşağıdakilerden hangisidir?

- A) Deneme B) Makale
- C) Eleştiri D) Fıkra

8. Edebiyat Öğretmeni Buket Hanım 11-A sınıfı öğrencilerine şu ödevi vermiştir:

Tüm öğrenciler kompozisyon yazacaktır. Herhangi bir konu sınırlaması olmayacaktır. Öğrenciler, kendi düşüncelerini serbestçe ve karşılıklı olarak konuşuyormuş gibi kaleme alacaklardır.

Bu ödevi hazırlayan öğrencilerin yazısı aşağıdaki türlerin hangisiyle benzerlik gösterir?

- A) Günlük B) Sohbet
- C) Otobiyografi D) Fıkra

9. Yazar Sait Faik Abasıyanık'ın doğal güzelliklerini hikâyelerinde anlattığı Burgazada, çöplükten çıkan yangınla büyük tehlike atlattı. Marmara'nın en yeşil ve üçüncü büyük adası olan Burgazada'da yangın, rüzgârın etkisiyle yerleşim birimlerine kadar ilerledi. Büyük panik yaşayan vatandaşlar, adanın sahil kesiminde toplandı.

Bir haber yazısından alınan bu parçada aşağıdaki sorulardan hangisinin yanıtı yoktur?

- A) Kim? B) Nerede?
- C) Niçin? D) Ne zaman?

3. OTURUM

10. • Tek Adam
• Dertli Dolap
• Yunus Emre
Yukarıda verilen eserler hangi türde kaleme alınmıştır?
- A) Gezi yazısı B) Günlük
C) Biyografi D) Mektup
11. **Aşağıdakilerden hangisi anı türünün özelliklerinden biri değildir?**
- A) Yaşanmış olayları konu aldığı için tarihe ışık tutar.
B) Yazar, anılarını kaleme alırken olabildiğince öznel bir tutum takınmalıdır.
C) Yazar, anlattıklarını ispatlamak zorunda değildir.
D) Kişisel, sosyal, siyasi, edebî vb. konularda yazılabilir.
12. Makale türü edebiyatımıza ---- ile birlikte girmiştir. ---- Agâh Efendi ile birlikte çıkardığı ilk özel gazete olan ---- birinci sayısında yayımlanan "Mukaddime" bizde ilk makale olarak kabul edilir. **Bu parçada boş bırakılan yerlere aşağıdakilerden hangileri sırasıyla getirilmelidir?**
- A) Cumhuriyet – Ruşen Eşref Üneydin'in – Hakimiyet-i Milliye'nin
B) Millî Edebiyat – Ahmet Rasim'in – Tercüman-ı Hakikat'in
C) Tanzimat – Namık Kemal'in – Tasvir-i Efkâr'ın
D) Tanzimat – Şinasi'nin – Tercüman-ı Ahval'in
13. Sri Lanka'nın dağlık bölgesi, yüksekliği 2 bin metreyi aşan ve adanın merkezinde bulunan bu bölge, aynı zamanda en çok yağmur alan bölge. Nehirlerin kaynaklarının toplandığı yer. Kalu adıyla Hint Okyanusu'na dökülen nehir, geniş bir havzanın içinde bir örümcek ağı gibi irili ufaklı sayısız ırmak ve dereyle beslenerek akıyor. Âdem Zirvesi, diğer adıyla Adam's Peak bu bölgede bulunuyor. Buranın bir vadi ötesi ise Ratnapura, yani "cevher-şehir". Bu isim tabii ki de vadinin değerli taşlar bakımından önemli olmasından kaynaklanıyor. **Bu parça aşağıdaki metin türlerinin hangisinden alınmıştır?**
- A) Gezi yazısı B) Anı
C) Otobiyografi D) Günlük
14. **Aşağıdaki fıkra-makale karşılaştırmalarından hangisi yanlıştır?**
- A) Fıkranın samimi ve serbest bir anlatımı vardır, makalelerde daha ciddi ve bilimsel bir dil kullanılır.
B) Fıkroda güncel konular ele alınır, makalede uzmanlık gerektiren konular işlenir.
C) Fıkroda işlenen konunun okura benimsetilmesi amaçlanır, makalede ispat kaygısı yoktur.
D) Fıkralarda konular kısa ve öz biçimde ele alınır, makalede düşünceler daha derinlemesine açıklanır.
15. **Aşağıdakilerden hangisi edebiyatımızdaki ilk eleştiri örneğidir?**
- A) Talim-i Edebiyat
B) Harabat
C) Tahrib-i Harabat
D) Demdeme
16. 1911'de İstanbul'da doğmuşum. Ben doğduğumda ailem Ortaköy'de oturuyormuş. Ömrümün ilk dört yılı orada geçti. Çocukluğuma dair ilk hatıralarım da o yıllara rastlar. Maliye bakanı olan dedeme, zamanın padişahı tarafından "olgun" anlamına gelen "pişmiş" soyadı verildiğini büyüklerim anlatırlardı. Sonra ailemiz Üsküdar'a geldi. Çok sakın bir çocuktum. Ablam okula başlayınca ben de okula gitmeye heveslendim. Ailem ısrarlarıma dayanamayıp beni erken yaşta okula gönderdi. **Bu parça aşağıdaki türlerin hangisinden alınmıştır?**
- A) Sohbet B) Biyografi
C) Günlük D) Otobiyografi
17. I. Endüstri, iş ve ticaret alanlarında ya da iş yerleriyle kişiler arasında yazılan mektuplar iş mektuplarıdır.
II. Biyografi türündeki yazılara eski edebiyatta "tercümeihâl" denmiştir.
III. Dünya edebiyatında deneme türünün en eski örneklerini İngiliz yazar Francis Bacon vermiştir. **Yukarıda numaralanmış yargılar doğru(D)-yanlış(Y) olarak değerlendirildiğinde sıralama aşağıdakilerden hangisi olur?**
- | | I | II | III |
|----|---|----|-----|
| A) | Y | Y | D |
| B) | D | Y | Y |
| C) | D | Y | D |
| D) | D | D | Y |
18. **Aşağıdakilerden hangisi anlatmaya bağlı metinlerdendir?**
- A) Orta oyunu
B) Anı
C) Manzum hikâye
D) Sohbet

3. OTURUM

19. Ankara, 28 Kasım 1978, 10.30

Üstat Necip Fazıl'ı Mola Oteli'nde ziyaret ettik. Büyük Doğu'yu son beş sayı çıkarıp kapayışından sonra Akif, Erdem, Rasim onunla ilk kez karşılaşıyorlar. Alaeddin ve Mehmet de var. Üstat: " Büyük Doğu son çıkışında en parlak dönemini yaşadı. Kapanmasında çeşitli nedenler var ama en büyük amil siz oldunuz." dedi.

Bu parça aşağıdaki türlerin hangisine örnektir?

- A) Eleştiri B) Günlük
C) Sohbet D) Otobiyografi

20. I. Sansasyonel: Yalanlama.
II. Sürmanşet: Gazetelerin birinci sayfasındaki logonun üzerinde kullanılan başlık.
III. Asparagas: Şişirme haber.
IV. Muhabir: Basın ve yayın organlarına haber toplayan kişi.
Haber yazılarıyla ilgili yukarıda numaralanmış kavramlardan hangisi yanlış açıklanmıştır?

- A) I. B) II. C) III. D) IV.

(406) DİL VE ANLATIM – 6

1. Bizim halk şairi adı altında tanıdığımız sanatçılar şehir kültürü ile beslenmiş kimselerdir. Fakat onlarda şehir tesirinin yanında köy ve kır hayatının tesirleri de kuvvetle devam edegelmiştir. Başka bir deyişle halk şairi bizim bugün ona folklor adını verdiğimiz, cemiyetin en alt tabakalarına kadar inen birtakım değer kaynaklarından faydalanan insanlardır.

Bir röportajdan alınan bu paragraf aşağıdaki sorulardan hangisine cevap olarak söylenmiştir?

- A) Halk şairinin dayandığı kültür hangisidir?
B) Halk şairinin günümüzde işlevi kalmış mıdır?
C) Halk edebiyatını oluşturan değerler nelerdir?
D) Halk şairinin toplumla ilişkisi nasıl olmalıdır?

2. Aşağıdaki türlerin hangisinde söyleşmeye bağlı anlatımdan yararlanır?

- A) Söylev B) Deneme
C) Mülakat D) Günlük

3. (I) Birkaç gün evvel bir eser daha yayımladı. (II) "Ali Nizami Bey'in Alafrangalılığı ve Şeyhliği" adını taşıyan bu uzun hikâye kitabıda sanat ve edebiyat muhitinde layık olduğu alakayı bulacak. (III) Bu eser hakkında kendisiyle görüşmeyi düşündük. (IV) Abdülhak Şinasi Hisar, ziyaretimizi sempati ile karşıladı.

Bir röportajdan alınmış bu parçada numaralanmış cümlelerin hangisinde yazım yanlışı yapılmıştır?

- A) I. B) II. C) III. D) IV.

4. Bilim insanlarının bilim toplantılarında gerçekleştirdiği söylevlere - - - - denmektedir.

Bu cümlede boş bırakılan yere aşağıdakilerden hangisi getirilmelidir?

- A) askerî söylev
B) akademik söylev
C) dinsel söylev
D) hukuksal söylev

5. Üniversite öğrencisi Onur, sosyal medya kullanımıyla ilgili bir tez hazırlamaktadır. Onur, konunun uzmanı bir akademisyenle görüşüp onun düşüncelerini de tezine eklemek amacındadır.

Buna göre Onur'un, amacını gerçekleştirmek için kullanacağı tür aşağıdakilerden hangisidir?

- A) Günlük B) Hatıra
C) Söylev D) Mülakat

6. Aşağıdaki cümlelerin hangisinin sonuna nokta (.) getirilemez?

- A) Bugün kar yağacakmış
B) Siparişlerimiz haftaya gelir mi
C) Önümüzde güzel günler var
D) Çocuk, tatlı tatlı gülüyordu

7. Aşağıdakilerden hangisi önemli söylevcilerden biridir?

- A) Hamdullah Suphi Tanrıöver
B) Reşat Nuri Güntekin
C) Faliş Rıfki Atay
D) Yakup Kadri Karaosmanoğlu

8. Aşağıdakilerden hangisi mülakatı yapan kişinin dikkat etmesi gereken noktalardan biri değildir?

- A) Sorular herkesin anlayabileceği şekilde açık olmalıdır.
B) Ayrıntıya girmemek gerekir.
C) Konuşulan konu dışında farklı konulardan da bahsedilmelidir.
D) Mülakat yapılacak kişiden randevu alınmalıdır.

9. Söylev türünün en önemli temsilcileri olarak Eski Yunan edebiyatında - - - - , Latin edebiyatında ise - - - - kabul edilebilir.

Bu cümlede boş bırakılan yerlere aşağıdakilerden hangileri sırasıyla getirilmelidir?

- A) Sokrates – La Fontaine
B) Aristo – Moliere
C) Platon – Boccaccio
D) Demosthenes – Cicero

10. Aşağıdakilerden hangisi söylevleriyle tanınmış sanatçılardan biri değildir?

- A) Rıza Tevfik Bölükbaşı
B) Osman Yüksel Serdengeçti
C) Behçet Kemal Çağlar
D) Faruk Nafiz Çamlıbel

11. I. Röportajda bir konuyu aydınlatma amacı vardır.
II. Mülakat yapan kişi, verilen cevaplara kendi yorumunu da katmalıdır.
III. Konularına göre röportajlar beşe ayrılır.
IV. Söylevde etkileme, coşturma ve inandırma amacı vardır.

Yukarıda numaralanmış cümleler doğru(D)-yanlış(Y) olarak değerlendirildiğinde sıralama aşağıdakilerden hangisi olur?

- | | I | II | III | IV |
|----|---|----|-----|----|
| A) | Y | Y | D | D |
| B) | D | Y | Y | D |
| C) | D | D | Y | D |
| D) | Y | D | Y | Y |

3. OTURUM

12. Anadolu kadınları!

Bu gaza diyarında, bin seneden beri, ateş ve cenk yerlerine oğullarını koşturan Anadolu kadınları; bin senedir daima uzak yerlerde ölen, yetiştirdikleri oğulların mezarları nerededir bilmeyen Anadolu kadınları! Kurtuluş günleri, kavuşma günleri geldi. Sevinin, bayram edin!

Bu parçanın üslup özelliklerine göre aşağıdaki metin türlerinden hangisiyle kaleme alındığı söylenebilir?

- A) Röportaj B) Mülakat
C) Söylev D) Makale

13. Aşağıdakilerden hangisi edebiyatımızda tanınmış mülakat yazarlarından biri değildir?

- A) Mithat Cemal Kuntay
B) Hikmet Feridun Es
C) Sermat Sami Uysal
D) Mustafa Baysal

14. Aşağıdaki cümlelerin hangisinde röportajın tanımı yapılmıştır?

- A) Bir eseri, sanatçıyı, dönemi veya okuyucuyu değerlendirmek amacıyla yazılan yazılardır.
B) Bir yazarın herhangi bir konu üzerinde kesin yargılara varmadan kişisel görüş ve düşüncelerini serbestçe anlattığı yazılardır.
C) Yazarın okuyucularını inandırmak için bir konu, eşya ya da bir yerle ilgili olarak yaptığı incelemeleri değişik boyutlarıyla ele alıp kendi görüşlerini de katarak yazdığı gazete ve dergi yazıdır.
D) Sanatta, edebiyatta, bilimde, politikada veya başka alanlarda tanınmış kişilerin yaşamlarını anlatan yazılardır.

15. Aşağıdakilerden hangisi söylevin etkili olması için söylevcinin yapması gerekenlerden biri değildir?

- A) Söyleyişte ara sıra abartıya, aşırı ses yükseltmelerine yer vererek dikkatleri toplamalıdır.
B) Söylevcinin, konuştuğu konuyu çeşitli yönleriyle iyice bilmesi ve söyleyeceklerine inanması gerekir.
C) Söylevci söylevin çeşidine ve konuya bağlı olarak anlaşılır sözcükler seçmeli; seçilen cümleler kısa, yalın ve akıcı olmalıdır.
D) Söylevci konuşmasını, jest ve mimikleriyle desteklemelidir.

16. Mustafa Kemal Atatürk'ün Kurtuluş Savaşı sırasında cep hede askere moral aşılama amacıyla yaptığı konuşmalar aşağıdakilerden hangisinin örneği kabul edilir?

- A) Siyasi söylev
B) Askerî söylev
C) Hukuksal söylev
D) Dinsel söylev

17. – *Türk hafif Batı müziğinin ortaya çıkışında büyük katkılarınız oldu, biraz o yıllardan bahseder misiniz?*

– 50'li yıllar... Yeni gelişen bir cumhuriyet... Yüzümüz Batı'ya dönük. Düşünün henüz televizyon yok. Her yeni günle birlikte sanat dünyasında ve dünyada olup bitenlerden âdeta gözlemsel etütler yapıyoruz.

– *O yıllarda Türkiye'de müzik hayatı nasıldı?*

– O günler, radyolarımıza yakışan yayın ciddiyeti ve disiplini içinde güzel türkülerimizin ve Türk sanat müziği eserlerinin yorumlarıyla şenlenirdi. Gazinolarda Türk musikisinin büyük ustaları ve halk müziği sanatçılarımız sahne alırdı.

Bu parça aşağıdaki türlerin hangisinden alınmıştır?

- A) Makale B) Deneme
C) Fıkra D) Mülakat

18. Aşağıdaki eserlerden hangisi röportaj türündedir?

- A) Eğil Dağlar
B) Bu Diyar Baştan Başa
C) Sürgün
D) Semaver

19. Söylev türünün ilk örneklerine hangi dönemde rastlanmıştır?

- A) Sümer – Hitit
B) Bizans – Hun
C) Emevi – Abbasi
D) Eski Yunan – Roma

20. Aşağıdakilerden hangisi sözlü anlatım türlerinden biri değildir?

- A) Mülakat B) Söylev
C) Günlük D) Röportaj

(413) TÜRK EDEBİYATI – 3

1. Geçmiş zamanlara ait bir edebî eseri layıkıyla ve tarihî manasıyla anlamak için önce o devrin genel hayatını, yaşayış ve düşünüş tarzlarını, insanların hayat ve evren hakkında neler bildiklerini öğrenmemiz gerekir. Çünkü eserdeki bir düşünüş biçimini, inancı veya toplum hayatında görülen bir yeniliği içinde bulunduğumuz güne göre değerlendirmek o esere haksızlık yapılmasına yol açacaktır.

Bu parçada edebî eserlerle ilgili anlatılmak istenen aşağıdaki-lerden hangisidir?

- A) Yazıldığı dönemin anlayışına göre değerlendirilmelidir.
B) Tarihe kaynaklık eden önemli eserler olduğu unutulmamalıdır.
C) Toplumdaki tüm değer ve anlayışlara saygılı olmalıdır.
D) Estetik zevk vermek amacıyla yazılmalıdır.

3. OTURUM

2. I. Edebî eserleri tarihsel gelişim çizgisine göre incelemek
II. Edebî bir dil oluşmasını sağlama çabı
III. Edebî dönemlerin özelliklerini belirlemek
IV. Edebî türlerin gelişimini ortaya koymak
Yukarıda numaralanmış ifadelerden hangisi edebiyat tarihini işlevlerinden biri değildir?
A) I. B) II. C) III. D) IV.
3. **Orhun Abideleri aşağıdaki alfabelerden hangisiyle yazılmıştır?**
A) Arap B) Uygur
C) Latin D) Göktürk
4. **Aşağıdakilerden hangisi Batı Etkisinde Gelişen Türk Edebiyatı'nın dönemleri arasında yer almaz?**
A) Cumhuriyet edebiyatı
B) Millî Edebiyat
C) Divan edebiyatı
D) Servetifünun edebiyatı
5. **Türk edebiyatının dönemlere ayrılmasında aşağıdakilerden hangisi etkili olmamıştır?**
A) Din anlayışı
B) Kültürel farklılaşma
C) Dil coğrafyası
D) Alfabe değişikliği
6. Orhun Abideleri, bir önderin ulusuna seslenişi, ona hesap veriş ve önerilerde bulunuşu yönünden - - - - özelliği gösterir.
Bu cümlede boş bırakılan yere aşağıdakilerden hangisi getirilmelidir?
A) nutuk B) hikâye
C) mülakat D) fıkra
7. **Edebiyat araştırmalarında aşağıdaki bilim dallarının hangisinden yararlanılmaz?**
A) Tarih B) Felsefe
C) Sosyoloji D) Biyoloji
8. **Aşağıdakilerden hangisi eski Türk şairlerinin görevleri arasında yer almaz?**
A) Savaş kararlarını vermek
B) Tanrılara kurban sunmak
C) Hastaları iyileştirmek
D) Ölenlerin arkasından ağıtlar söylemek
9. Destanda uzun arayışlardan sonra ölümsüzlük otunu bulup da bir yılanı kaptıran zalim Uruk kralı ile arkadaşı Enkidu'nun öyküsü anlatılır. Uruk kralı ölümsüzlüğün sırrını öğrenmek için tehlikeli bir yolculuğa çıkar. Bu destan bilinen en eski destandır.
Bu parçada sözü edilen destan aşağıdakilerden hangisidir?
A) İlyada B) Gılgamış
C) Odysseus D) Ramayana
10. **Aşağıdaki destan – sanatçı eşleştirmelerinden hangisi yanlıştır?**
A) Çakır'ın Destanı – Fazıl Hüsnü Dağlarca
B) Kurtuluş Savaşı Destanı – Nazım Hikmet
C) Sakarya Meydan Savaşı – Orhan Asena
D) Maraş'ın ve Ökkeş'in Destanı – Gülten Akın
11. **Aşağıdakilerden hangisi Sözlü Edebiyat Dönemi'nde verilen türler arasında gösterilemez?**
A) Koşuk B) Sagu
C) Kaside D) Destan
12. Kargı çuvaç kuruldu
Tugum tiklip uruldu
Süsi otun oruldu
Kaçuk kaçır ol tutar
Bu dizelerle ilgili aşağıdakilerden hangisi söylenemez?
A) 4+3'lü hece ölçüsüyle oluşturulmuştur.
B) Sözcük hâlinde redif kullanılmıştır.
C) Uyak düzeni "aaab" şeklindedir.
D) Nazım birimi dördüktür.
13. Kar buz tümü eridi
Dağların suları akıştı
Mavi bulut yükseldi
Kayık gibi sallanır.
Günümüz Türkçesiyle verilen bu koşuk dizeleri, konusuna göre aşağıdaki şiir türlerinden hangisine örnektir?
A) Pastoral B) Didaktik
C) Satirik D) Epik
14. **İranlı Firdevsi'nin Şehname adlı eserinde Efrâsiyâb adıyla anılan Türk hükümdar aşağıdakilerden hangisidir?**
A) Alp Er Tunga
B) Bilge Kağan
C) Oğuz Kağan
D) Kültigin
15. **İslamiyet öncesindeki sözlü edebiyat ürünlerini ilk defa yazıya geçirerek eserinde yer veren sanatçı aşağıdakilerden hangisidir?**
A) Aprınçur Tigin
B) Yusuf Has Hâcib
C) Ahmet Yesevi
D) Kaşgarlı Mahmut
16. **Aşağıdakilerden hangisi İslamiyet sonrası Türk destanlarındandır?**
A) Bozkurt B) Ergenekon
C) Köroğlu D) Türeyiş
17. **Aşağıdakilerden hangisi Türk destanlarında görülen mitolojik unsurlardan biri değildir?**
A) Ağaç B) Kopuz
C) Işık D) Demir
18. Orhun Yazıtları'nı Türkiye'de ilk kez Arap harfleriyle - - - - yayımlamıştır.
Bu cümlede boş bırakılan yere aşağıdakilerden hangisi getirilmelidir?
A) Talat Tekin
B) Necib Asım
C) Reşit Rahmeti Arat
D) Mehmet Fuat Köprülü

3. OTURUM

19. Aşağıdakilerin hangisinde bilgi yanlış vardır?

- A) Türklerin kullandığı ilk alfabe Göktürk Alfabesi'dir.
- B) Destanlar doğal ve yapay olarak ikiye ayrılır.
- C) Göç Destanı, Uygurlar Dönemi'ne aittir.
- D) Savların halk edebiyatındaki karşılığı ağıttır.

20. Aşağıdakilerden hangisi Türk edebiyatında adı bilinen ilk yazardır?

- A) Yollug Tigin
- B) Kül Tigin
- C) Bilge Kağan
- D) Alp Er Tunga

(416) TÜRK EDEBİYATI – 6

1. - - - - Servet-i Fünun'un yazı işleri müdürlüğüne getirilmesiyle dergi, bir sanat ve edebiyat dergisi hâline dönüşür. Böylece yeni bir edebiyat çığırını başlar.

Bu parçada boş bırakılan yere aşağıdakilerden hangisi getirilmelidir?

- A) Tevfik Fikret'in
- B) Şemsettin Sami'nin
- C) Cenap Şahabettin'in
- D) Halit Ziya Uşaklıgil'in

2. Aşağıdakilerden hangisi Servetifünun sanatçıları arasında yer almaz?

- A) Mehmet Rauf
- B) Hüseyin Cahit Yalçın
- C) Reşat Nuri Güntekin
- D) Ahmet Hikmet Müftüoğlu

3. Servetifünun edebiyatının üç önemli isminden biridir. Geleneğe şairlerin o dönemde en çok saldırdığı yenilikçi şairdir. Şiire "nesir musikisi" diyen sanatçı, şiirlerini "Tamat" ve "Evrak-ı Leyal" adlı kitaplarda topladı.

Bu parçada söz edilen sanatçı aşağıdakilerden hangisidir?

- A) Tevfik Fikret
- B) Cenap Şahabettin
- C) Hüseyin Cahit Yalçın
- D) Mehmet Âkif Ersoy

4. Aşağıdaki eserlerden hangisi öğretici metin olarak değerlendirilemez?

- A) Kırk Yıl
- B) Şiirimiz
- C) Avrupa Mektupları
- D) Rübab-ı Şikeste

5. Realizm akımının şiire yansımış biçimidir. Bu akım şiirdeki gerçekçiliktir. "Sanat için sanat" anlayışına bağlı kalınarak duygudan çok tasvire, düşünceye, biçim ve söyleyiş güzelliğine önem verilir.

Bu parçada tanıtılan edebî akım aşağıdakilerden hangisidir?

- A) Klasisizm
- B) Romantizm
- C) Parnasizm
- D) Sembolizm

6. Aşağıdakilerden hangisi Servetifünun şiiri için söylenmez?

- A) Şiir, düzyazıya yaklaştırılmıştır.
- B) Kulak için kafiye anlayışı benimsenmiştir.
- C) Ölçü olarak hece kullanılmıştır.
- D) Parça güzelliği yerine bütün güzelliğine önem verilmiştir.

7. Düzyazı cümleleriyle yazılmış şiirlerdir. Ses, söyleyiş ve tema bakımından şiire; şekil bakımından ise düzyazıya benzer. Vezin, kafiye gibi şekle ait önceden belirlenmiş sınırlayıcı öğeler bulunmadığı için yazan kişi duygularını daha rahat ifade eder.

Bu parçada sözü edilen tür aşağıdakilerden hangisidir?

- A) Terzarima
- B) Mensur şiir
- C) Manzum hikâye
- D) Serbest müstezat

8. - - - - romanda yazar, olaylardan çok kişilerin olaylar karşısındaki tepkileri üzerinde durur. Kişilerin ruhsal durumları ayrıntılarıyla ele alınır.

Bu parçada boş bırakılan yere aşağıdakilerden hangisi getirilmelidir?

- A) Psikolojik
- B) Fantastik
- C) Realist
- D) Polisiye

9. Aşağıdaki eserlerden hangisi Halit Ziya Uşaklıgil'e ait değildir?

- A) Çağlayanlar
- B) Mai ve Siyah
- C) Aşk-ı Memnu
- D) Bir Ölünün Defteri

10. Aşağıdakilerden hangisi Fecriati temsilcilerinin edebiyatta gerçekleştirmek istedikleri arasında gösterilemez?

- A) Temsilcilerin eserlerinden meydana gelecek bir kütüphane kurmak
- B) Edebiyat ve sosyal bilimlerin gelişmesine hizmet etmek
- C) Batı edebiyatının önemli eserlerini tercüme ettirmek
- D) Eserlerde toplumsal sorunlara çözüm üretmek

11. (I) Eserlerinde realizm akımının etkisi görülen Halit Ziya Uşaklıgil, Servetifünun edebiyatının önemli isimleri arasında yer alır. (II) Roman kişilerini genellikle aydın ve üst zümreden seçmiştir. (III) Eserlerinin tamamında "Sanat, sanat içindir." anlayışına bağlı kalarak bireysel konuları işlemiştir. (IV) Sade ve anlaşılır bir dil kullanan sanatçı, şiirlerinde hece ölçüsünü kullanmıştır.

Bu parçada numaralanmış cümlelerin hangisinde bilgi yanlış vardır?

- A) I. B) II. C) III. D) IV.

12. Aşağıdaki sanatçılardan hangisi Fecriati topluluğunda yer almıştır?

- A) Mehmet Rauf
- B) Tevfik Fikret
- C) Tahsin Nahit
- D) Ziya Gökalp

13. Aşağıdaki sanatçılardan hangisi realizm akımına bağlı değildir?

- A) Moliere
- B) Balzac
- C) Tolstoy
- D) Stendhal

3. OTURUM

14. Fecriati topluluğunun en önemli ismidir. Özellikle şiir türündeki eserleriyle tanınmıştır. Saf şiir anlayışına bağlı kalan sanatçı Fransız sembolist şairlerden etkilendirilmiştir. Edebiyatımızda sembolizm akımının en önemli temsilcisi olarak kabul edilmiştir. Şiirlerinin tamamını aruzla yazan sanatçı şiirde anlam kapallılığına önem vermiştir.

Bu parçada hakkında bilgi verilen sanatçı aşağıdakilerden hangisidir?

- A) Ahmet Haşım
B) Mehmet Rauf
C) Tevfik Fikret
D) Cenap Şahabettin

15. Aşağıdakilerin hangisinde Millî Edebiyat sanatçıları bir arada verilmiştir?

- A) Namık Kemal – Yakup Kadri Karaosmanoğlu
B) Tevfik Fikret – Yahya Kemal Beyatlı
C) Mehmet Rauf – Halit Ziya Uşaklıgil
D) Ziya Gökalp – Mehmet Emin Yurdakul

16. Romanlarında hissî ve sosyal konuları bir arada işleyen yazar, küçük hikâyelerinde bunların yanına mizahı da dâhil eder. Roman, hikâye, tiyatro, gezi yazısı türlerinde eser veren sanatçının "Çalılık, Dudaktan Kalbe, Acımak" önemli eserlerindedir. **Bu parçada tanıtılan sanatçı aşağıdakilerden hangisidir?**

- A) Mehmet Emin Yurdakul
B) Reşat Nuri Güntekin
C) Halide Edip Adıvar
D) Ömer Seyfettin

17. Aşağıdaki eser-tür eşleştirmelerinden hangisi yanlıştır?

- A) Anadolu Notları – Gezi yazısı
B) Beyaz Lale – Hatıra
C) Çoban Çeşmesi – Şiir
D) Sodom ve Gomora – Roman

18. Aşağıdakilerin hangisinde Halide Edip Adıvar'ın anı türündeki eserleri bir arada verilmiştir?

- A) Dağa Çıkan Kurt – Mor Salkımlı Ev
B) Kalp Ağrısı – Harap Mabetler
C) Mor Salkımlı Ev – Türk'ün Ateşle İmtihanı
D) Türk'ün Ateşle İmtihanı – Kalp Ağrısı

19. I. Sone
II. Gazel
III. Terzarima
IV. Koşma

V. Serbest müstezat

Yukarıda numaralanmış nazım biçimlerinden hangileri Servetifünun Dönemi'nde kullanılmıştır?

- A) I, II ve IV.
B) I, III ve V.
C) II, III ve IV.
D) III, IV ve V.

20. Aşağıdaki eser-yazar eşleştirmelerinden hangisi yanlıştır?

- A) Türkçülüğün Esasları – Ziya Gökalp
B) Aziz İstanbul – Yahya Kemal Beyatlı
C) Tanrı Misafiri – Halide Edip Adıvar
D) Kırık Hayatlar – Halit Ziya Uşaklıgil

(426) FİZİK – 6

1. Yükleri $4q$ ve $5q$ olan noktasal elektrik yükleri arasındaki uzaklık $2d$ olduğunda birbirlerine uyguladıkları elektriksel kuvvet kaç $\frac{kq^2}{d^2}$ 'dir?

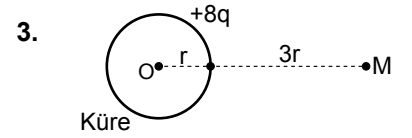
- A) 5 B) 4 C) 2 D) 1

2. Elektrik alanı ile ilgili;

- I. Pozitif birim yüke etki eden elektriksel kuvvet olarak tanımlanır.
II. Skaler bir büyüklüktür.
III. Elektrik alan çizgileri hiçbir zaman birbirini kesmez.

Yargılarından hangileri doğrudur?

- A) Yalnız I B) Yalnız II
C) I ve III D) II ve III



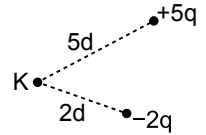
Yükü $8q$ ve yarıçapı r olan şekildeki kürenin M noktasında oluşturduğu elektrik alanın büyüklüğü $\frac{kq}{r^2}$ cinsinden kaçtır? (k = Coulomb sabiti, r = yarıçap)

- A) $\frac{1}{3}$ B) 4 C) 2 D) $\frac{1}{2}$

4. Aralarında $0,9$ m uzaklık olan $q_1 = 6 \cdot 10^{-6}$ C, $q_2 = 4 \cdot 10^{-6}$ C noktasal iki yükün sahip olduğu elektriksel potansiyel enerji kaç jouledür? ($k = 9 \cdot 10^9$ N $\frac{m^2}{C^2}$)

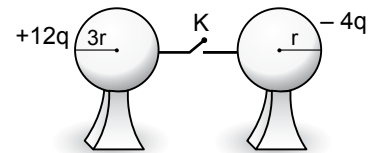
- A) 2,4 B) 0,24
C) 0,024 D) 0,0024

5. Şekilde gösterilen $q_1 = -2q$ ve $q_2 = 5q$ yüklerinin $2d$, $5d$ uzağındaki K noktasında oluşturduğu toplam potansiyelin $\frac{kq}{d}$ cinsinden büyüklüğü nedir?



- A) 5 B) 3 C) 2 D) 0 (sıfır)

6. Yalıtılan ayaklar üzerinde duran şekildeki $3r$ ve r yarıçaplı iletken küreler üzerindeki yükler sırasıyla $+12q$ ve $-4q$ 'dur.

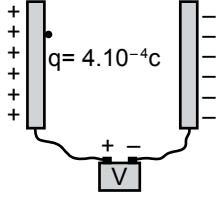


Küreler iletken bir telle şekildeki gibi bağlanıp K anahtarı kapatılırsa ortak potansiyelin, $\frac{kq}{r}$ cinsinden büyüklüğü nedir?

- A) 4 B) 3 C) 2 D) 1

3. OTURUM

7. Yükü $4 \cdot 10^{-4}$ C kütlesi 3 g olan parçacık sürtünmesiz ortamda şekildedeki gibi 900 volt potansiyel farkı uygulanan birbirine paralel levhalar arasında serbest bırakılıyor.



Buna göre parçacık karşı levhaya kaç m/s hızla çarpar?
(Ağırlık ihmal ediliyor)

- A) $\sqrt{240}$ B) $\sqrt{120}$
C) $\sqrt{80}$ D) $\sqrt{40}$

8. Kondansatör üretece bağlı iken levhalar birbirlerinden uzaklaştırılırsa;

- I. Kondansatörün sığası değişir.
II. Üretecin uçları arasındaki potansiyel farkı değişmez.
III. Levhalardaki yük miktarı değişir.

Yargılarından hangileri doğrudur?

- A) Yalnız I B) Yalnız II
C) I ve III D) I, II ve III

9. Armatürlerinde $12 \cdot 10^{-6}$ C' luk yük bulunan $4 \cdot 10^{-6}$ F sığalı bir kondansatörün armatürleri arasındaki potansiyel farkı kaç voltur?

- A) 6 B) 4 C) 3 D) 2

10. Sığaclar kullanıldıkları yere ve ihtiyaca göre farklı şekillerde üretilmektedir.

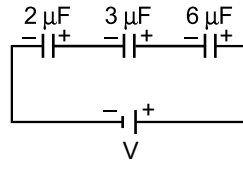
Buna göre;

- I. Paralel plakalı
II. Silindirik
III. Küresel

verilenlerden hangileri sığaç türlerine örnek verilebilir?

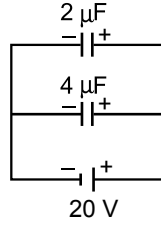
- A) I ve II B) I ve III
C) II ve III D) I, II ve III

11. Şekildeki devrede $2 \mu\text{F}$, $3 \mu\text{F}$ ve $6 \mu\text{F}$ olan seri bağlı devrede eş değer sığa kaç μF 'dır?



- A) 1 B) 6 C) 8 D) 12

12. Sığaları $2 \mu\text{F}$ ve $4 \mu\text{F}$ olan paralel bağlı kondansatörler 20 V'luk gerilim ile şekildedeki gibi yükleniyor.



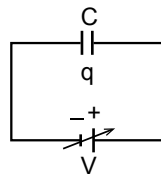
Buna göre kondansatörlerdeki toplam yük kaç μC 'dur?

- A) 240 B) 120 C) 90 D) 20

13. 2 V'luk üretece bağlanarak yüklenen $5 \cdot 10^{-6}$ F'lık bir kondansatörde depolanan enerji kaç joule olur?

- A) $20 \cdot 10^{-6}$ B) $10 \cdot 10^{-6}$
C) $8 \cdot 10^{-6}$ D) $2 \cdot 10^{-6}$

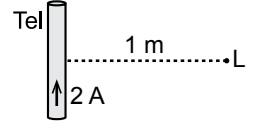
- 14.



Şekildeki gibi yüklenen bir kondansatörün yük ve potansiyel fark grafiği aşağıdakilerden hangisidir?

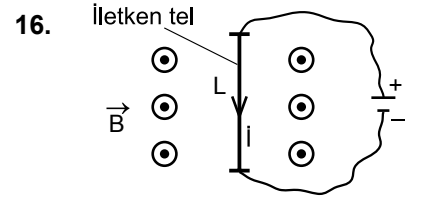
- A) Potansiyel fark vs Yük: Linear decrease
B) Potansiyel fark vs Yük: Linear increase
C) Potansiyel fark vs Yük: Constant
D) Potansiyel fark vs Yük: Quadratic increase

15. Şekildeki tel parçasının üzerinden 2 amper büyüklüğünde ok yönünde akım geçmektedir.



Buna göre telden 1 m uzaklıktaki L noktasında oluşan manyetik alan kaç wb/m^2 dir?
($K = 10^{-7} \text{N/A}^2$)

- A) $16 \cdot 10^{-7}$ B) $8 \cdot 10^{-7}$
C) $4 \cdot 10^{-7}$ D) $2 \cdot 10^{-7}$



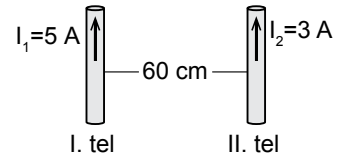
- 16.

Şekildeki gibi düzgün bir manyetik alan içerisinde akım geçen tele etkiyen manyetik kuvvet (F);

- I. Telin boyu (L)
II. Manyetik alanın büyüklüğü (\vec{B})
III. Tel üzerinden geçen akım (\vec{I})
verilen fiziksel büyüklüklerin hangilerine bağlıdır?

- A) Yalnız I B) II ve III
C) I ve II D) I, II ve III

17. Aralarında 60 cm uzaklık bulunan paralel iletken düz tellerden sırasıyla 5 A ve 3 A şiddetinde akımlar geçmektedir.



Buna göre II. telin 80 cm'lik parçasına uygulanan kuvvetin büyüklüğü kaç N'dur?
($K = 10^{-7} \text{N/A}^2$)

- A) $15 \cdot 10^{-6}$ B) 10^{-6}
C) $4 \cdot 10^{-6}$ D) $3 \cdot 10^{-6}$

3. OTURUM

(427) FİZİK – 7

18. Elektrik enerjisini hareket enerjisine çeviren elektriksel araçlara elektrik motoru denir.

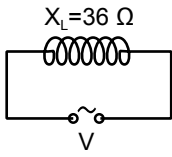
Buna göre;

- I. Çamaşır makinası
II. Buzdolabı
III. Bisiklet dinamosu

verilen araçlardan hangilerinde elektrik motoru vardır?

- A) Yalnız I B) II ve III
C) I ve III D) I ve II

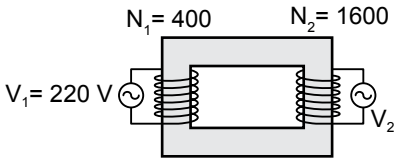
19. Şekildeki alternatif akım makarasının indüktansı 36Ω frekansı 60 s^{-1} 'dir.



Buna göre akım makarasının öz indüksiyon kat sayısı kaç Henry'dir? ($\pi = 3$ alınacak)

- A) 0,1 B) 0,6 C) 0,8 D) 1,2

20. Birincil sarım sayısı 400 ikincil sarım sayısı 1600 olan şekildeki transformatörde birincil sarıma 220 V potansiyel farkı uygulandığında ikincil sarımdan elde edilen potansiyel fark kaç V'tur?

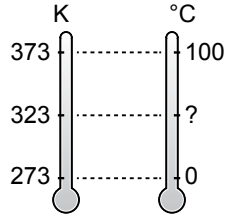


- A) 880 B) 660
C) 440 D) 110

1. Isı ve sıcaklık ile ilgili aşağıdakilerden hangisi doğrudur?

Isı	Sıcaklık
A) Bir ölçümdür.	Bir enerjidir.
B) Termometre ile ölçülür.	Kalorimetre ile ölçülür.
C) Bir enerjidir.	Bir ölçümdür.
D) Termometre ile ölçülür.	Bir enerjidir.

2. Şekildeki gibi aynı ortamda bulunan Kelvin termometresindeki 323 K sıcaklık değeri celsius termometresinde kaç derece celsius gösterir?



- A) 100 B) 80 C) 50 D) 23

3. Isının konveksiyon yolu ile taşınmasına aşağıdakilerden hangisi örnek verilir?

- A) Tavada ısıtılan peynirin erimesi
B) Ocak üstünde bulunan çaydanlıktaki metal kulpun ısınması
C) Okul gömleğinin ütülenmesi
D) Mum alevinin hava moleküllerini ısıtması

4. 1 gram suyun sıcaklığını 10 K arttırmak için gerekli ısı miktarı kaç jouledür? ($C_{su} = 4,18 \frac{\text{J}}{\text{g.K}}$)

- A) 0 (sıfır) B) 4,18
C) 20,9 D) 41,8

5. 20°C Su + 60°C Su \rightarrow Su

Isıca yalıtılmış bir ortamda özdeş kaplarda bulunan eşit kütleli sular şekildeki gibi aynı kaba boşaltıldığında karışımın son sıcaklığı kaç $^\circ\text{C}$ olur?

- A) 55 B) 45 C) 40 D) 30

6. Sıvının gaz haline geçme olayına buharlaşma adı verilir.

Buna göre;

- I. Buharlaşma olayı her sıcaklıkta olabilir.
II. Sıvı yüzeyi arttıkça buharlaşma artar.
III. Sıcaklık arttıkça buharlaşma artar.

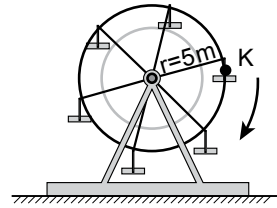
Verilen yargılardan hangileri doğrudur?

- A) Yalnız I B) Yalnız III
C) I ve II D) I, II ve III

7. 100 saniyede 3600 devir yapan bir elektrik motorunun frekansı kaç s^{-1} dir?

- A) 36 B) 360 C) 3,6 D) 0,36

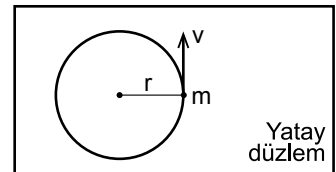
8. Şekildeki gibi yarıçapı 5 m olan dönme dolabın K noktasında oturan Ayşe 2 tam turu 60 s'de tamamlıyor.



Buna göre K noktasında oturan Ayşe'nin çizgisel hızı kaç m/s 'dir? ($\pi = 3$ alınacak)

- A) 1 B) 2 C) 3 D) 6

9. Şekildeki gibi sürtünmesiz yatay düzlemde r yarıçaplı yörüngede m kütleli cisim v çizgisel hızı ile düzgün çembersel hareket yaptığında merkezci kuvvet \vec{F} 'dir

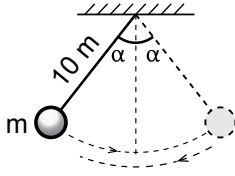


Buna göre aynı şartlarda cismin kütlesi 2 m olduğunda merkezci kuvvet kaç \vec{F} olur?

- A) $6\vec{F}$ B) $4\vec{F}$ C) $3\vec{F}$ D) $2\vec{F}$

3. OTURUM

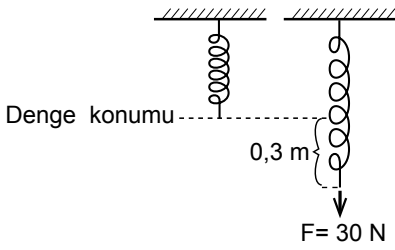
10.



Şekildeki gibi salınım hareketi yapan 10 m boyundaki basit sarkacın periyodu (T) kaç saniyedir?
($g = 10 \frac{m}{s^2}$, $\pi = 3$ alınacak)

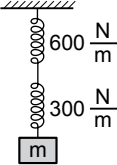
- A) 8 B) 6 C) 3 D) 1

11. Denge konumundan çekilen yaya 30 N'luk kuvvet uygulanarak çekilen yay 0,3 m uzadığına göre yayın uzama katsayısı (k) kaç N/m'dir?



- A) 50 B) 100
C) 200 D) 300

12. Yay sabitleri $k_1 = 600 \text{ N/m}$ ve $k_2 = 300 \text{ N/m}$ olan eşit boydaki iki yay şekildeki gibi seri bağlanıp ucuna m kütleli cisim asılıyor.



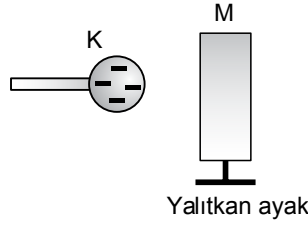
Buna göre sistemin eş değer yay sabiti kaç N/m'dir?

- A) 100 B) 200 C) 400 D) 900

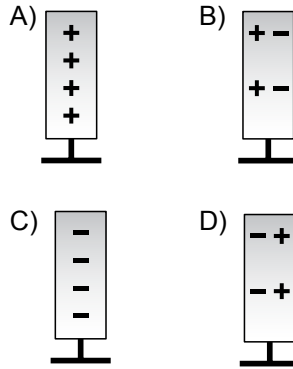
13. Aşağıdakilerden hangisi alternatif akım kaynağıdır?

- A) Jeneratör B) Pil
C) Dinamo D) Akü

14.



Eksi yüklü K küresi şekildeki gibi nötr M iletken levhasına dokundurulup çekilirse levhanın yük dağılımı nasıl olur?

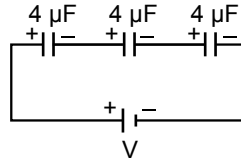


15. Sığaçların elektrikli araçlarda kullanılma nedenleri;

- I. Elektrik enerjisini armatürler arasında depolamak
II. Kısa devrede elektrik enerjisini çok hızlı boşaltmak
III. Doğru akımı geçirip alternatif akımı engellemektir
- yargılarından hangilerinde doğru verilmiştir?**

- A) Yalnız I B) I ve II
C) II ve III D) I, II ve III

16. Her birinin değeri $4 \mu\text{F}$ olan özdeş sığaçlar şekildeki gibi seri bağlanmıştır.



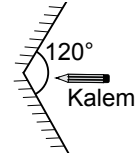
Buna göre eş değer sığa kaç μF 'dır?

- A) $\frac{4}{3}$ B) 12 C) $\frac{3}{4}$ D) 4

17. Alternatif akım devresindeki etkin akım şiddeti 3 amperdir. Gerilimin etkin değeri 120 V olduğunda devrenin gücü kaç watt olur?

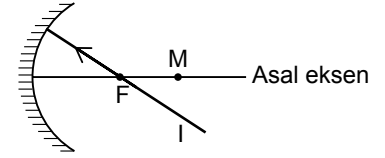
- A) 420 B) 360
C) 40 D) 18

18. Aralarında 120° açı olan iki düz ayna arasındaki kalemin aynalardaki görüntü sayısı (n) kaçtır?

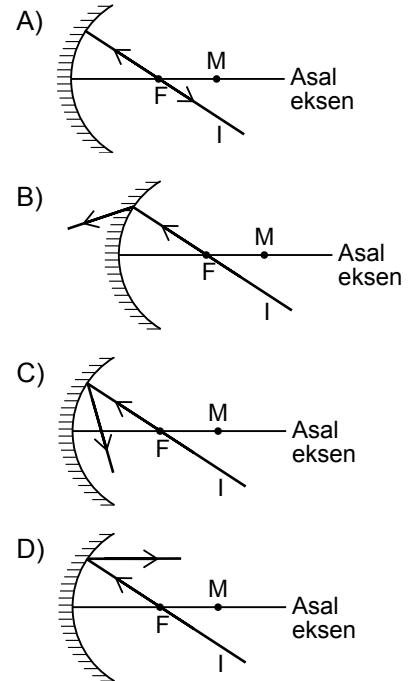


- A) 4 B) 3 C) 2 D) 1

19.



Şekildeki gibi odak noktasından geçen I ışını çukur aynada nasıl yansır?



20. Dalgalar mekanik ve elektromanyetik dalga olarak ikiye ayrılır.

Buna göre;

- I. Kızıl ötesi ışınlar
II. X ışınları
III. Radyo dalgaları
IV. Su dalgaları

verilen örneklerden hangileri elektromanyetik dalgalarıdır?

- A) I ve II B) III ve IV
C) I, II ve III D) II, III ve IV

3. OTURUM

(428) FİZİK – 8

1. X ışınları tüpünde oluşan X ışınlarının enerjisi $6,62 \cdot 10^{-46} \text{ j}$ olduğuna göre frekansı kaç Hz'dir ($h = 6,62 \cdot 10^{-34} \text{ j.s}$)?

- A) $1 \cdot 10^{-14}$ B) $1 \cdot 10^{-12}$
C) $1 \cdot 10^{-10}$ D) $1 \cdot 10^{-8}$

2. Aşağıdakilerden hangisi X ışınlarına ait bir özellik değildir?

- A) Ses hızı ile yayılır.
B) Frekansları çok büyüktür.
C) Dalga boyları çok küçüktür.
D) Enerjileri çok yüksektir.

3. X ışınları aşağıdaki hangi madde tarafından soğrulur?

- A) Tahta
B) Cam
C) Kurşun levha
D) Plastik

4. X ışınları ile gerçekleşen fiziksel olaylardan;

- I. Kırılma
II. Yansıma
III. Polarizasyon

hangileri gerçekleşir?

- A) Yalnız I B) I ve II
C) I ve III D) I, II ve III

5. İyonik bağlı bileşikler için;

- I. Belirli geometrik düzen içinde dizilirler.
II. Elektrik akımını iletmezler.
III. Sert ve kırılıgandır.

Yargılarının doğru (D), yanlış (Y) sıralaması aşağıdakilerden hangisidir?

- | | I | II | III |
|----|---|----|-----|
| A) | D | Y | D |
| B) | D | D | D |
| C) | Y | D | Y |
| D) | Y | Y | D |

6. Metalik bağların özellikleri ile ilgili verilen ifadelerden hangisi doğrudur?

- A) Metaller arasında oluşur.
B) Çok zayıf bir bağıdır.
C) Isı ve elektriği iletmez.
D) Parlak olmayan maddeler oluşturur.

7. Üstün iletkenlerin teknolojide bir çok kullanım alanları vardır.

Buna göre;

- I. Demir yolları
II. Elektronik devreler
III. Robotlar
IV. Dinamometreler

verilenlerden hangileri üstün iletkenlerin kullanım alanlarındandır?

- A) I ve IV B) II ve III
C) I, II ve III D) II, III ve IV

8. $^{56}_{26}\text{X}$ atomunun nötron sayısı kaçtır

- A) 26 B) 30 C) 56 D) 82

9. $^{234}_{92}\text{Y}$ atomu Beta (β) bozunmasına uğradığında oluşacak atom aşağıdakilerden hangisidir?

- A) $^{234}_{94}\text{Y}$ B) $^{234}_{93}\text{Y}$ C) $^{234}_{91}\text{Y}$ D) $^{234}_{90}\text{Y}$

10. Bir radyoaktif madde 20 gram gelmektedir. Madde 4 kez bozunduğunda kaç gram gelir?

- A) 2,5 B) 1,25
C) 0,75 D) 0,25

11. Yarılanma ömrü 1,386 saniye olan bir izotopun ortalama ömrü kaç saniyedir? ($T_{1/2} = \frac{0,693}{\lambda}$)

- A) 0,5 B) 1 C) 1,5 D) 2

12. Atom modellerinden biri olan Rutherford atom modeline göre;

- I. Atom çekirdek ve elektronlardan oluşur.
II. Atomun kütlelerinin tamamına yakını çekirdekte toplanmıştır.
III. Atomlar içi dolu küre şeklindedir.

Verilen yargılardan hangileri doğrudur?

- A) Yalnız I B) II ve III
C) I ve II D) I, II ve III

13. Aşağıdakilerden hangileri nötrinolara ait bir özellik değildir?

- A) Elektrik yükleri vardır.
B) Kütleleri sıfıra yakındır.
C) Işık hızına yakın hareket ederler.
D) Elektromanyetik etkileşimde bulunmazlar.

14. Elektron, proton ve nötron parçacıklarının karşıparçacık eşleştirmesi aşağıdakilerden hangisinde doğru verilmiştir?

A)	Parçacık	Karşı parçacık
	Elektron	Karşı proton
	Proton	Karşı nötron
	Nötron	Pozitron

B)	Parçacık	Karşı parçacık
	Elektron	Karşı nötron
	Proton	Nötron
	Nötron	Pozitron

C)	Parçacık	Karşı parçacık
	Elektron	Pozitron
	Proton	Karşı proton
	Nötron	Karşı nötron

D)	Parçacık	Karşı parçacık
	Elektron	Pozitron
	Proton	Proton
	Nötron	Karşı nötron

15. Dalga boyu $6 \cdot 10^{-12} \text{ m}$ olan fotonun frekansı kaç Hz'dir? ($c = 3 \cdot 10^8 \text{ m/s}$)

- A) $5 \cdot 10^{15}$ B) $5 \cdot 10^{19}$
C) $5 \cdot 10^{14}$ D) $5 \cdot 10^8$

16. Aşağıdakilerden hangisi fotonlara ait bir özellik değildir?

- A) Fotoelektrik olay sonucu ortaya çıkarlar.
B) Fotonlar nötr olan atomaltı parçacıktır.
C) Kütleleri çok büyüktür.
D) Işık hızı ile hareket ederler.

3. OTURUM

(433) KİMYA – 3

17. Leptonlar zayıf çekirdek kuvvetlerinden sorumlu parçacıklardır.

Buna göre;

- I. Elektron
- II. Nötrino
- III. Müon

yukarıdakilerden hangileri leptonlara örnek olarak verilebilir?

- A) Yalnız I
- B) II ve III
- C) I ve III
- D) I, II ve III

18. İnsanlar tarih boyunca bilim ile uğraşmıştır.

Buna göre;

- I. Asurlar
- II. Persler
- III. Sümerler
- IV. Babiller

verilen medeniyetlerden kaç tanesi bilim ile uğraşmıştır?

- A) 1
- B) 2
- C) 3
- D) 4

19. Bir gözlem ya da olayın üzerinde çalışmalar yaparak öneri ya da tavsiye şeklindeki açıklamalara ne denir?

- A) Deney
- B) Teori
- C) Yasa
- D) Hipotez

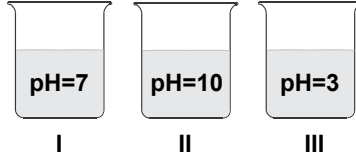
20. Aşağıdaki gözlemlerden hangisi nicel gözleme örnek verilebilir?

- A) Yeni evin genişliği 120 m².
- B) Ocaktaki yemeğin kokusu çok güzel.
- C) Kış mevsiminde çok üşümedik.
- D) Fizik dersinin yazılı sınavı kolaydı.

1. Aşağıda verilen maddelerin hangisi ile hazırlanan sulu çözelti bazik özellik gösterir?

- A) HCl
- B) H₂SO₄
- C) NH₃
- D) HNO₃

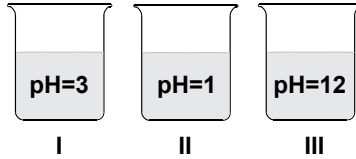
2. Aşağıda oda koşullarında hazırlanan çözeltilere ait pH değerleri verilmiştir.



Buna göre bu çözeltilerden hangileri asidik özellik gösterir?

- A) Yalnız I
- B) Yalnız III
- C) I ve III
- D) II ve III

3. Aşağıda 25°C'teki bazı sulu çözeltilere ait pH değerleri verilmiştir.



Bu çözeltilere turnusol kâğıdı daldırılıyor. Buna göre hangilerinde turnusol kâğıdının rengi maviye döner?

- A) Yalnız I
- B) Yalnız III
- C) II ve III
- D) I ve III

4. Aşağıda verilen metallere hangisi HCl çözeltisine atıldığında H₂ gazı açığa çıkarır?

- A) Cu
- B) Ag
- C) Au
- D) Fe

5. Aşağıdaki asitlerden hangisinin cam şişede saklanması uygun değildir?

- A) HCl
- B) HBr
- C) HF
- D) HI

6. Halk arasında "Kezzap" olarak bilinen sulu asit çözeltisi aşağıdaki asitlerden hangisi ile hazırlanır?

- A) Amonyak
- B) Asetik asit
- C) Hidroklorik asit
- D) Nitrik asit

7. Günlük hayatta kullandığımız aşağıdaki maddelerin hangisi asidik özellik gösterir?

- A) Çamaşır suyu
- B) Sirke
- C) Sabun
- D) Lavabo açıcı

8. Aşağıdaki özelliklerden hangisi sadece bazlara aittir?

- A) 25°C'te çözeltilerinin pH değerleri 7'den büyüktür.
- B) Turnusol kâğıdını kırmızıya çevirirler.
- C) Buldukları maddelere ekşilik katarlar.
- D) Sulu çözeltileri elektrik akımını iletir.

9. Halk arasında sudkostik adı verilen, suda bol miktarda çözünen, sabun, deterjan üretiminde, evlerde lavabo açıcı olarak kullanılan kuvvetli baz aşağıdakilerden hangisidir?

- A) NaOH
- B) Ca(OH)₂
- C) NH₃
- D) KOH

10. Aşağıdaki açıklamalardan hangisi yanlıştır?

- A) Asitler aktif metallere etki ederek H₂ gazı açığa çıkarır.
- B) Nötral çözeltilerde pH değeri 14'tür.
- C) Asit ve baz çözeltileri elektrik akımını iletir.
- D) İndikatörler, asitlerle ve bazlarla etkileşerek renk değiştirir.

11. Aşağıda verilen madde örneklerinden hangisi homojen bir karışımdır?

- A) Kan
- B) Ayran
- C) Su
- D) Tuzlu su

3. OTURUM

12.

	Madde	Molekül polarlığı
I.	Sıvı yağ	Apolar
II.	Etanol	Polar
III.	Karbon tetraklorür	Apolar

Verilen maddelerden hangileri saf suda iyi çözünür?

- A) Yalnız II B) I ve II
C) I ve III D) I, II ve III

13. Aşağıda verilen çözelti örneklerinin hangisinde hem çözücü madde sıvı hem de çözünen madde sıvıdır?

- A) Tuzlu su B) Temiz hava
C) Kolonya D) Çelik

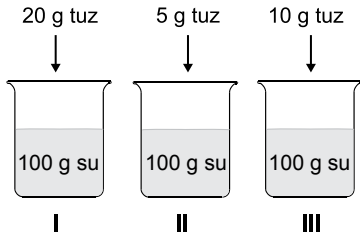
14. 40 gram şekerin 160 gram saf su içerisinde tamamen çözünmesi sonucu hazırlanan çözeltide şekerin kütlece yüzde derişimi kaçtır?

- A) 4 B) 20 C) 30 D) 80

15. 1 mg Ca^{2+} iyonu bulunan 100 gram suyun derişimi kaç ppm' dir?

- A) 0,1 B) 1
C) 10 D) 100

16. Aynı şartlarda bulunan su örneklerine üzerindeki maddeler eklenerek tamamen çözünüyor.



Hazırlanan bu çözeltilerin kaynama noktalarının karşılaştırılması aşağıdakilerin hangisinde doğru verilmiştir?

- A) II > III > I B) I > II > III
C) III > I > II D) I > III > II

17. Aşağıdakilerden hangisi tanecik boyutu farkından yararlanılarak yapılan bir ayırma yöntemidir?

- A) Diyaliz B) Yüzdürme
C) Damıtma D) Ayırma hunisi

18.

Madde	Kaynama noktası
Etil alkol	78°C
Su	100°C

Buna göre etil alkol - su karışımı hangi yöntemle ayrılabilir?

- A) Ayırma hunisi
B) Ayrımsal damıtma
C) Süzme
D) Yüzdürme

19. • Süt
• Şekerli su
• Hava
• Gazoz

Yukarıda verilen karışım örneklerinden kaç tanesi çözüldür?

- A) 1 B) 2 C) 3 D) 4

20. Hacimce % 20'lik etil alkol içeren 300 mL sulu çözeltide kaç mL etil alkol vardır?

- A) 10 B) 20 C) 40 D) 60

(434) KİMYA – 4

1. Aşağıdakilerden hangisi yenilebilir bir enerji kaynağıdır?

- A) Kömür B) Güneş
C) Petrol D) Doğalgaz

2. Kütlece karbon(C) yüzdesi en fazla olan kömür türü aşağıdakilerin hangisinde doğru verilmiştir?

- A) Turba B) Linyit
C) Antrasit D) Taş kömürü

3. Kömürün enerji kaynağı olarak kullanımı, hava ile yanma tepkimesine dayanır.

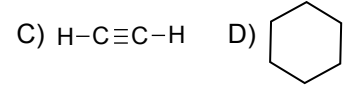
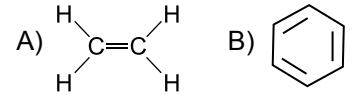
Kömürün yanan kısmının karbon olduğu düşünüldüğünde, kömürün yanması sonucu aşağıdaki gazlardan hangisinin oluşması beklenir?

- A) SO_2 B) NO_2
C) CH_4 D) CO_2

4. Aşağıdakilerden hangisi ham petrolü bileşenlerine ayırtmak için kullanılan ayırma yöntemidir?

- A) Ayrımsal kristallendirme
B) Ayırma hunisi
C) Damıtma
D) Santrifüjleme

5. Aşağıdakilerden hangisi aromatik hidrokarbon sınıfı bir bileşiktir?



6. Aşağıdakilerden hangisi proteinlerin yapıtaşdır?

- A) Glikoz B) Aminoasitler
C) Nişasta D) Gliserin

7. 12 tane hidrojen (H) atomu içeren bir sikloalkan bileşığının molekül formülü aşağıdakilerden hangisidir?

- A) C_5H_{12} B) C_6H_{12}
C) C_7H_{12} D) $C_6H_{12}O_6$

8. I. Jeotermal enerji
II. Hidrojen enerjisi
III. Rüzgar - dalga enerjisi

Verilenlerden hangileri temiz enerji kaynağıdır?

- A) Yalnız III B) I ve II
C) II ve III D) I, II ve III

3. OTURUM

9. Aşağıdaki açıklamalardan hangisi yanlıştır?

- A) Kömür bir fosil yakıttır.
B) Hidrokarbonlar yapılarında sadece karbon ve hidrojen bulundurulur.
C) Kömür kullanımı hava kirliliğinin oluşmasını engeller.
D) LPG' nin ana bileşenleri propan ve butan bileşikleridir.

10. I. Karbonhidrat
II. Yağ
III. Protein

Yukarıda verilenlerden hangileri gıdalarda bulunan besin maddeleri arasında yer alır?

- A) Yalnız I B) Yalnız II
C) I ve III D) I, II ve III

11. - - - - ve - - - - iyonları bakımından zengin sulara sert su denir.

Verilen boşluklara aşağıdaki iyon çiftlerinden hangisinin gelmesi uygundur?

- A) Ca^{2+} ve Mg^{2+}
B) Cr^{3+} ve K^+
C) Na^+ ve Ba^{2+}
D) Li^+ ve K^+

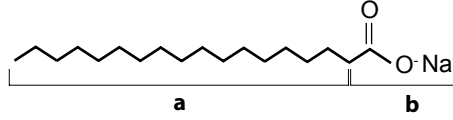
12. Aşağıdakilerden hangisi şehirlerde kullanılan suların artırımında uygulanan işlemlerden değildir?

- A) Dinlendirme
B) Florlama
C) Sertlik (kireç) giderme
D) Havalandırma

13. Aşağıdaki açıklamalardan hangisi yanlıştır?

- A) Tatlı su kaynaklarının veya yataklarının yakınına yerleşim yerleri kurulmalıdır.
B) Sert sular sabun ile temas ettiğinde sabun taşı denilen bir çökelek oluştururlar.
C) Kireçli kaynak sularının pH değeri 7' den büyüktür.
D) İçme sularında bulunan mikroorganizmalar kolera, tifo ve dizanteri gibi salgın hastalıklara yol açabilir.

14. Bir moleküle ait çizgi - bağ gösterimi aşağıdaki gibidir.



Bu molekül ile ilgili;

- I. Sabuna aittir.
II. b kısmı hidrofilidir.
III. a kısmı hidrofobtur.

İfadelerden hangileri doğrudur?

- A) Yalnız I B) I ve II
C) II ve III D) I, II ve III

15. "Avrupa Birliği, gıda katkı maddelerini kısa yoldan göstermek için bir kodlama sistemi geliştirmiştir. Bu sistemde her katkı kodu - - - - harfi ile başlar ve üç veya dört rakamdan oluşan bir sayı ile tamamlanır."

Verilen ifadede boş bırakılan (- - - -) yere aşağıdakilerden hangisi getirilmelidir?

- A) E B) D C) U D) T

16. Aşağıdakilerden hangisi doğal bir polimer değildir?

- A) Kauçuk B) Naylon
C) İpek D) Protein

17. Aşağıda verilenlerden hangisi sabunlar ve deterjanlar için ortak özelliktir?

- A) Bitkisel ve hayvansal yağlardan elde edilir.
B) Hidrofil ve hidrofob uç içerir.
C) Sert suların çok az etkilenir.
D) Doğada kolay parçalanamayan maddelerden oluşur.

18. Bazı bileşiklere ait bileşik formülü ve yaygın isimleri aşağıdaki gibidir.

	Bileşik formülü	Yaygın adı
I.	$CaCO_3$	Kireç taşı
II.	CaO	Sönmüş kireç
III.	$Ca(OH)_2$	Sönmemiş kireç

Verilen bileşiklerden hangilerinin yaygın adı doğru verilmiştir?

- A) Yalnız I B) I ve II
C) II ve III D) I, II ve III

19. Aşağıdakilerden hangisi sera gazlarını artıran insan faaliyetleri arasında yer alır?

- A) Yakma sistemlerinin geliştirilmesi
B) Ormanlık alanların artırılması
C) Petrol rafinerileri gibi endüstriyel faaliyetler
D) Fosil yakıt tüketiminin azaltılması

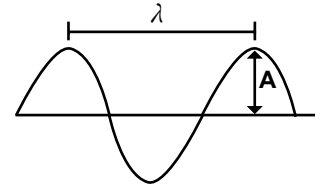
20. I. Plastikler
II. Piller ve aküler
III. Endüstri atıkları

Yukarıda verilenlerden hangileri toprak kirliliğine neden olan etkenlerdendir?

- A) Yalnız I B) I ve II
C) II ve III D) I, II ve III

(435) KİMYA – 5

1.



Şekildeki dalgada λ ve A ile gösterilen ifadeler aşağıdakilerden hangisinde doğru verilmiştir?

	λ	A
A)	Genlik	Dalga boyu
B)	Dalga boyu	Genlik
C)	Frekans	Dalga boyu
D)	Dalga boyu	Frekans

2. Baş kuantum sayısı (n) değeri 3 ve açıl momentum kuantum sayısı (ℓ) değeri 2 olan bir orbitalin alabileceği maksimum elektron sayısı aşağıdakilerden hangisidir?

- A) 2 B) 8 C) 10 D) 14

3. Madelung- Kletchkowski ilkesine göre bir orbitale ait $n + \ell$ değeri arttıkça orbitalin enerjisi artar.

Buna göre aşağıdaki orbitallerden hangisinin enerjisi diğerlerine göre daha fazladır?


- A) 2s B) 3p C) 4s D) 3d

3. OTURUM

4. Periyodik sistemle ilgili aşağıdaki bilgilerden hangisi yanlıştır?

- A) Elementlerin artan kütle numaralarına göre düzenlenmiştir.
B) Yatay sıralara periyot denir.
C) Dikey sütunlara grup denir.
D) s, p, d ve f bloğu elementleri içerir.

5.



Periyodik sistemde ok yönünde;

- I. Atom yarıçapı
II. Atom numarası
III. İyonlaşma enerjisi

verilenlerden hangileri artar?

- A) Yalnız I B) I ve II
C) II ve III D) I, II ve III

6. Aşağıdaki bileşiklerin hangisinde Cl elementinin yükseltgenme basamağı (değerliği) diğerlerinden daha yüksektir?
($_{11}\text{H}$, $_{8}\text{O}$, $_{11}\text{Na}$, $_{17}\text{Cl}$)

- A) HClO_4 B) HClO_3
C) HClO_2 D) NaCl

7. • Difosfor trioksit
• Kükürt hegzaförür
• Karbon tetraklorür
• Sodyum klorür

Verilen bileşik isimlerinden kaç tanesi kovalent bağlı bir bileşiğe aittir?

- A) 1 B) 2 C) 3 D) 4

8. Aşağıdaki iyonlardan hangisinin adı yanlış yazılmıştır?

İyon	Adı
A) NO_3^-	Nitrat
B) OH^-	Hidroksit
C) SO_4^{2-}	Sülfat
D) PO_4^{3-}	Fosfür

9. ^{12}C elementi ile ilgili;

- I. 1 molü 12 gramdır.
II. 1 tanesi 12 akb'dir.
III. N_A tanesi 12 gramdır.

Verilenlerden hangileri doğrudur? ($N_A = \text{Avogadro sayısı}$)

- A) Yalnız I B) I ve II
C) II ve III D) I, II ve III

10. 2 mol H_2O bileşiği kaç tane atom içerir?
($N_A = \text{Avogadro sayısı}$)

- A) $6N_A$ B) $2N_A$
C) 6 D) 2

11. Basit formülü CH_2O ve mol kütlesi 180 gram olan bileşiğin molekül (gerçek) formülü aşağıdakilerin hangisinde doğru verilmiştir?
($\text{H}=1 \text{ g/mol}$, $\text{C}=12 \text{ g/mol}$, $\text{O}=16 \text{ g/mol}$)

- A) $\text{C}_2\text{H}_4\text{O}_2$ B) $\text{C}_4\text{H}_8\text{O}_4$
C) $\text{C}_6\text{H}_{12}\text{O}_6$ D) $\text{C}_8\text{H}_{16}\text{O}_8$

12. Sadece karbon ve hidrojen elementlerinden oluşan bir bileşiğin 1 molü tamamen yakıldığında 4 mol CO_2 ve 5 mol H_2O oluşuyor.

Buna göre bu bileşiğin basit formülü aşağıdakilerin hangisinde doğru verilmiştir?

- A) CH_2 B) C_2H_3
C) C_2H_5 D) C_3H_4

13. $\text{C}_3\text{H}_8(\text{g}) + 5\text{O}_2 \rightarrow 3\text{CO}_2(\text{g}) + 4\text{H}_2\text{O}(\text{g})$ tepkimesinde 5 mol C_3H_8 gazı ve 5 mol O_2 gazı alınarak tam verimle tepkimeye sokuluyor.

Buna göre tepkime ile ilgili aşağıdakilerden hangisi yanlıştır?

- A) O_2 gazı tükenir.
B) Sınırlayıcı madde C_3H_8 gazıdır.
C) 3 mol CO_2 gazı oluşur.
D) 4 mol H_2O gazı oluşur.

14. $\text{CH}_3\text{OH}(\text{g}) \rightarrow \text{CH}_2\text{O}(\text{g}) + \text{H}_2(\text{g})$

2 mol CH_3OH gazı alınarak başlatılan tepkime sonucunda 0,5 mol CH_2O gazı elde ediliyor.

Buna göre tepkime verimi aşağıdakilerden hangisidir?

- A) % 25 B) % 50
C) % 75 D) % 100

15. $\text{CH}_4 + 2\text{O}_2(\text{g}) \rightarrow \text{CO}_2(\text{g}) + 2\text{H}_2\text{O}(\text{g})$

Tepkimesi ile ilgili;

- I. Yanma tepkimesidir.
II. Ekzotermik tepkimedir.
III. Asit-baz tepkimesidir.

Verilenlerden hangileri doğrudur?

- A) Yalnız I B) I ve II
C) I ve III D) II ve III

16. $PV = nRT$ ideal gaz denkleminde $N_{\text{ŞA}}$ 'da (1atm, 0°C) 2 mol gazın kapladığı hacim kaç litredir?

- A) 11,2 B) 22,4
C) 33,6 D) 44,8

17. • Basınç altındaki bir gazın, kabın bir bölmesinden diğer bölmesine veya atmosfere küçük bir delikten geçerek yayılması olayına - - I - - denir.

• Gaz taneciklerinin başka gaz tanecikleri ile kinetik özelliklerinden dolayı yavaş yavaş karışması olayına - - II - - denir.

Verilen açıklamalarda boş bırakılan yerlere aşağıdakilerden hangisi getirilmelidir?

	I	II
A)	Difüzyon	Efüzyon
B)	Kısmi basınç	Efüzyon
C)	Efüzyon	Difüzyon
D)	Difüzyon	Kısmi basınç

3. OTURUM

18. Aynı şartlarda bulunan aşağıdaki gaz moleküllerinden hangisinin difüzyon hızı diğerlerinden daha fazladır? (H=1 g/mol, He= 4 g/mol, C=12 g/mol, O=16 g/mol)

- A) H₂ B) He
C) CH₄ D) O₂

19. 1 mol H₂, 0,5 mol CH₄ ve 0,5 mol He gazları karışımı 11,2 litrelik kapta 0°C sıcaklıkta bulunmaktadır.

Buna göre H₂ gazının kısmi basıncı aşağıdakilerden hangisidir?

- A) 1 B) 2 C) 3 D) 4

20. Bir miktar gaz 27°C sıcaklıkta 10 litre hacim kaplamaktadır.

Sabit basınç altında bu gazın sıcaklığı 327°C'a çıkarılırsa kaç litre hacim kaplar?

- A) 5 B) 10 C) 15 D) 20

(445) BİYOLOJİ – 5

1. ATP molekülünün yapısında aşağıda verilenlerden hangisi yoktur?

- A) Adenin organik bazı
B) Riboz şekeri
C) İnorganik fosfat
D) Glikoz

2. Fotoototrof organizmalar besin üretme tepkimeleri sırasında hidrojen kaynağı olarak,

- I. H₂O
II. H₂S
III. H₂

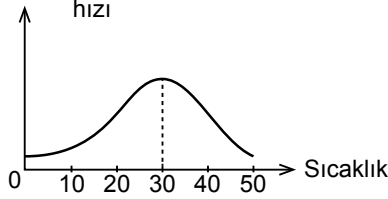
verilenlerden hangilerini kullanabilir?

- A) Yalnız I B) I ve II
C) II ve III D) I, II ve III

3. Kloroplastın granum ve tilakoit zarlarında gerçekleşen fotosentez tepkimeleri için aşağıdakilerden hangisi yanlış bir açıklamadır?

- A) Kemiozmozis ile ATP üretimi olur.
B) Elektron taşıma sistemi görev yapar.
C) Işığın absorbe etmek için klorofiller kullanılır.
D) CO₂'yi tutmak için RuBP kullanılır.

4. Fotosentez



Fotosentez hızının sıcaklıkla değişimini gösteren grafik incelendiğinde,

- I. 30 °C'den yüksek sıcaklıklar enzim yapısını bozduğu için fotosentez yavaşlar.
II. Fotosentez hızı sadece sıcaklığa bağlı olarak değişir.
III. Düşük sıcaklık değerlerinde bitkiler fotosentez yapamaz.

Yorumlarından hangileri yapılabilir?

- A) Yalnız I B) I ve II
C) I ve III D) II ve III

5. Aşağıda verilenlerden hangisi fotosentezi etkileyen kalıtsal faktörler içerisinde değerlendirilmez?

- A) Kloroplast sayısı
B) Yaprak sayısı ve genişliği
C) Karbondioksit miktarı
D) Kutikula kalınlığı

6. Kemosentez yapabilen bakteriler besin üretimi için gerekli olan enerjiyi inorganik kimyasalları oksitleyerek elde ederler.

Buna göre aşağıda verilen kemosentetik bakteri (a) – oksitlemede kullandığı kimyasal (b) eşleştirmelerinden hangisi yanlıştır?

	a	b
A)	Nitrit bakterileri	Amonyum
B)	Nitrat bakterileri	Nitrat tuzu
C)	Sülfür bakterileri	İndirgenmiş kükürt bileşikleri
D)	Demir bakterileri	Demir iyonları

7. Hücresel solunumun glikoliz basamağında,

- I. Substrat düzeyinde fosforilasyonla ATP üretimi
II. Oksidatif fosforilasyonla ATP üretimi
III. ATP'nin defosforilasyonu

verilenlerden hangileri görülür?

- A) Yalnız I B) I ve III
C) II ve III D) I, II ve III

8. Etil alkol ve laktik asit fermentasyonları için aşağıdakilerden hangisi ortaktır?

- A) Bira mayası hücrelerinde gerçekleşebilmesi
B) Aset aldehit molekülünün oluşması
C) NADH + H⁺ molekülünün yükseltgenmesi
D) Fermentasyon sırasında açığa CO₂ gazının çıkması

9. Oksijenli solunumun krebs döngüsü reaksiyonları için aşağıda verilenlerden hangisi doğru bir açıklamadır?

- A) 34 ATP üretimi gerçekleşir.
B) FADH₂ molekülü yükseltgenir.
C) Elektron taşıma sistemi kullanılır.
D) CO₂ üretimi olur.

3. OTURUM

10. Aminoasitlerin hücresel solunumda kullanılmasıyla ilgili,

- I. Solunum reaksiyonlarına sadece krebsten katılırlar.
- II. Solunumları sırasında sadece NH_3 oluşur.
- III. Sadece monomer halde solunuma katılırlar.

Verilenlerden hangileri doğrudur?

- A) Yalnız III B) I ve III
C) II ve III D) I, II ve III

- 11. • Miyelin kılıflar arasında kalan boşluklardır.**
• Nöronların aksonlarını saran ve miyelin kılıf üreten hücrelerdir.
• Nöronların diğer sinir hücrelerinden uyarı almasını sağlayan yapıdır.

Bir sinir hücresinde bulunan yapılarla ilgili verilen açıklamalar incelendiğinde aşağıdakilerden hangisinin karşılığının olmadığı görülür?

- A) Schwan
B) Ranvier boğum
C) Dentrit
D) Akson

12. Bir sinir hücresi için aşağıdakilerden hangisi uyarı iletim hızının yüksek olmasına neden olur?

- A) Miyelin kılıfın olmaması
B) Akson çapının büyük olması
C) Uyarının eşik değer üzerinde verilmesi
D) Uyarı frekansının yüksek olması

13. Sadece duyu nöronu zarar görmüş bir kişide,

- I. Eli yansa bile sıcaklık hissedilmez.
- II. Eli yansa, sıcaklık hissedilir ama tepki verilmez.
- III. Eli yansa, sıcaklık hissi algılanmaz, tepki oluşmaz.

Verilenlerden hangileri gözlenir?

- A) Yalnız I B) Yalnız II
C) Yalnız III D) I, II ve III

- 14. Akson ucuna gelen tüm sinapslar buradan diğer sinir hücresine geçmez, sinapslarda "K" adı verilen bir durumla karşılaşır ve böylece uyarıların tüm vücudunda dağılması engellenmiş olur. Bununla impulsun belirli bir yolda ilerlemesi ve sadece hedef organa ulaşması sağlanır.**

Verilen açıklamada bahsedilen "K" durumu aşağıdakilerden hangisi ile tanımlanır?

- A) Durdurucu sinaps
B) Kolaylaştırıcı sinaps
C) Seçici direnç
D) Ya hep ya hiç prensibi

15. Aşağıda verilenlerden hangisi arka beyine ait yapılardan biridir?

- A) Talamus
B) Beyincik
C) Beyin kabuğu
D) Omurilik

16. Aşağıda verilenlerden hangisi tiroit bezi hormonlarından?

- A) Parathormon B) Kalsitonin
C) Adrenalin D) Oksitonin

- 17. • Susuzluk durumunda kandaki miktarı artar.**
• Böbreklerden emilen su miktarını artırır.
• Eksikliğinde şekersiz şeker hastalığı ortaya çıkar.

Bazı özellikleri verilen hipofiz bezi hormonu aşağıdakilerden hangisidir?

- A) ACTH B) FSH
C) ADH D) TSH

18. Aşağıda verilen hormonlardan hangisi, kandaki şeker oranının düzenlenmesine yönelik diğerlerinden farklı yönde etki gösterir?

- A) İnsülin B) Glukagon
C) Kortizol D) Adrenalin

- 19. I. Cisimden gelen ışınların göz üzerinde ilk kırıldığı yer**
II. Cismin görüntüsünün gözde ilk olduğu yer

I ve II şeklinde verilenler aşağıdakilerden hangisinde doğru olarak belirtilmiştir?

- | | |
|-----------|------------|
| I | II |
| A) Kornea | İris |
| B) Mercek | Sarı benek |
| C) Kornea | Sarı benek |
| D) Mercek | İris |

20. Aşağıdakilerden hangisi kulakta yer alan, vücut dengesiyle ilgili yapılardan biridir?

- A) Salyangoz
B) Korti organı
C) Kohlear kanal
D) Yarım daire kanalları

(448) BİYOLOJİ – 8

- 1. • Genlerin kromozom üzerinde bulunduğu bölümdür.**
• Bir karakter için aynı alelden iki kopya bulunduran bireydir.
• Bireyin sahip olduğu genlerin toplamına denir.

Verilen tanımlar incelendiğinde aşağıdakilerden hangisinin karşılığı yoktur?

- A) Baskın karakter
B) Homozigot
C) Genotip
D) Lokus

- 2. İnsanda kıvrıkcık saç geni düz saç geni üzerine baskındır.**

Buna göre homozigot kıvrıkcık saçlı bir kadınla düz saçlı bir erkeğin evliliği sonrası oluşabilecek F_2 dölündeki genotip ayrışım oranı aşağıdakilerden hangisinde verilmiştir?

- A) 1 : 1 B) 3 : 1
C) 1 : 2 : 1 D) 9 : 3 : 3 : 1

3. $2n = Aa BB Dd ee$ genotipine sahip bir hücrenin mayoz bölünme yapması sonucu aşağıdaki gametlerden hangisi oluşmaz?

- A) ABDe B) aBDe
C) ABde D) abde

3. OTURUM

4. Bezelyelerde sarı tohum rengi geni, yeşil tohum rengi geni üzerine, düzgün tohumlu olma geni ise buruşuk tohumlu olma geni üzerine baskındır.

Buna göre heterozigot sarı – düzgün genotipli iki bezelyenin çaprazlanması sonucu yeşil – düzgün fenotipli bir bezelyenin oluşma ihtimali aşağıdakilerden hangisinde verilmiştir?

- A) 1/4 B) 1/16
C) 3/16 D) 9/16

5. Himalaya tavşanlarında kürk rengine etki eden dört farklı alel gen vardır.

Buna göre bu tavşanlarda kürk rengi yönüyle oluşabilecek genotip çeşitleri için, olası homozigot genotiplerin, olası heterozigot genotiplere oranı aşağıdaki-lerden hangisinde verilmiştir?

- A) 2/3 B) 3/7
C) 1/2 D) 2/5

6. Arslan ağzı bitkisinde kırmızı çiçek rengi beyaz çiçek rengine eksik baskındır.

Buna göre iki heterozigot arslan ağzı bitkisi çaprazlarsa, elde edilen döllerdeki fenotip ayrışım oranı aşağıdakilerden hangisindeki gibi olur?

- A) $\frac{3}{4}$ kırmızı, $\frac{1}{4}$ beyaz
B) $\frac{2}{4}$ kırmızı, $\frac{2}{4}$ beyaz
C) $\frac{1}{4}$ kırmızı, $\frac{2}{4}$ pembe, $\frac{1}{4}$ beyaz
D) $\frac{1}{4}$ pembe, $\frac{2}{4}$ kırmızı, $\frac{1}{4}$ beyaz

7. I. Anne Rh (-), Baba Rh (-)
II. Anne Rh (-), Baba Rh (+)
III. Anne Rh (+), Baba Rh (-)

Verilen durumların hangilerinde kan uyuşmazlığı (*Eritroblastosis fetalis*) hastalığı ortaya çıkabilir?

- A) Yalnız I B) Yalnız II
C) Yalnız III D) I ve II

8. Genotipi bilinmeyen dihibrit bir bireyin aşağıda verilen genotiplere sahip bireylerden hangisi ile çaprazlanması, yapılan çaprazlamanın kontrol çaprazlaması olduğunu gösterir?

- A) AABB B) AaBb
C) AAbb D) aabb

9. 0 kan grubuna sahip bir bireyin annesi aşağıda verilen kan gruplarından hangisine sahip olamaz?

- A) AB B) A0 C) B0 D) 00

10. $2n = 8$ kromozumlu dişi sirke sineğinin mayoz bölünme sonucu oluşturacağı gamet aşağıda verilenlerden hangisindeki gibidir?

- A) $n = 3 + Y$ B) $n = 3 + X$
C) $n = 3 + XX$ D) $n = 4 + X$

11. Renk körlüğü bakımından hastalık genini taşıyan sağlıklı bir dişi ile, renk körü olmayan bir erkeğin evliliğinden aşağıda verilen çocuklardan hangisinin oluşması beklenmez?

- A) Renk körü erkek
B) Sağlıklı erkek
C) Renk körü kız
D) Sağlıklı kız

12. I. $22 + X$
II. $22 + Y$
III. $22 + XX$
IV. $22 + 0$

Süper dişi sendromu yukarıda verilen gametlerden hangilerinin döllenenmesi sonucu oluşur?

- A) I ve III B) I ve IV
C) II ve III D) II ve IV

13. Aşağıda verilenlerden hangisi insanlarda görülen kalıtsal hastalıklardan değildir?

- A) Fenilketonüri
B) Orak hücreli anemi
C) Kistik fibrozis
D) AIDS

14. Varyasyonlar kalıtsal olduğu için aşağıda verilen hücrelerden hangisini etkiler?

- A) Üreme hücresi
B) Beyin hücresi
C) Böbrek hücresi
D) Epitel hücresi

15. Hardy – Weinberg kuralına göre popülasyonun kararlı (dengeli) olarak tanımlanabilmesi için,

- I. Şansa bağlı çiftleşme ve dölllenme olması
II. Gen seçilimi olmamalı
III. Mutasyon gerçekleşmemeli

özelliklerinden hangilerine sahip olması gerekir?

- A) Yalnız I B) I ve II
C) II ve III D) I, II ve III

16. Bir popülasyonda homozigot baskın genotipli bireylerin frekansı aşağıdakilerden hangisi ile ifade edilir?

- A) p B) p^2 C) 2pq D) q^2

17. Aşağıda verilenlerden hangisi bir popülasyonda, popülasyon dengesini bozan etmenlerden değildir?

- A) Göç
B) İzolasyon
C) Doğal seçim
D) Modifikasyon

18. I. Elektroporasyon
II. Biyolistik
III. Mikroenjeksiyon

Hayvansal hücrelerde DNA'nın hücreye aktarımı verilenlerden hangileri ile olabilir?

- A) Yalnız I B) Yalnız II
C) Yalnız III D) I, II ve III

19. DNA izolasyonunda kullanılan DNA enzimleri aşağıdakilerden hangisi olamaz?

- A) Peptidaz
B) Polimeraz
C) Fosfataz
D) Restriksiyon endonükleaz

3. OTURUM

20. Aşağıda verilen bilim dallarından hangisi genetik mühendisliği bilimi ile ilişkilendirilmez?

- A) Biyoteknoloji
- B) Astronomi
- C) Biyoloji
- D) Moleküler biyoloji

(452) ÇAĞ. TÜRK DÜN. TAR. – 2

1. Aşağıdakilerden hangisi 1963'te Moskova'da yapılan "Nükleer Denemelerin Kısmen Yasaklanması Antlaşması"nı imzalayan devletlerden değildir?

- A) Fransa
- B) İngiltere
- C) SSCB
- D) ABD

2. ABD'nin SSCB ile yaptığı SALT-II Antlaşması'nı onaylamamasında aşağıdakilerden hangisi etkili olmuştur?

- A) Küba Buhranı
- B) Vietnam Savaşı
- C) Helsinki Nihai Senedi
- D) SSCB'nin Afganistan'ı işgali

3. Yumuşama Dönemi çatışmalarında aşağıdaki devletlerden hangilerinin rekabeti rol oynamıştır?

- A) SSCB – Fransa
- B) ABD – Almanya
- C) ABD – SSCB
- D) İngiltere- İtalya

4. ABD'nin Fidel Castro yönetimine karşı muhalifleri desteklemesi Küba'yı hangi devlete yaklaştırmıştır?

- A) İngiltere
- B) SSCB
- C) İtalya
- D) Fransa

5. Pakistan, Keşmir meselesini aşağıdaki devletlerden hangisiyle yaşamaktadır?

- A) Afganistan
- B) Hindistan
- C) Çin
- D) Bangladeş

6. Asya – Afrika ülkeleri arasında dayanışma düşüncesi oluşturulan "Bağılantısızlık" akımı hangi konferansta ortaya çıkmıştır?

- A) Helsinki Konferansı
- B) İslam Ülkeleri Konferansı
- C) Tahran Konferansı
- D) Bandung Konferansı

7. Aşağıdakilerden hangisi petrolü siyasi amaçla kullanmak için kurulmuş kuruluşun İngilizce kısa adıdır?

- A) OAPEC
- B) ICAO
- C) CENTO
- D) EOKA

8. Camp David Antlaşması'yla Orta Doğu'da etkinliğini kaybeden devlet, aşağıdakilerden hangisidir?

- A) Mısır
- B) Irak
- C) Ürdün
- D) Suriye

9. Aşağıdakilerden hangisi Kıbrıs Sorunu'nu Birleşmiş Milletler Teşkilatı'na taşıyarak meseleyi uluslararası bir konu hâline getirmiştir?

- A) İngiltere
- B) Fransa
- C) Yunanistan
- D) ABD

10. Türkiye hangi denizde Yunanistan ile "Kıta Sahaneliği Sorunu" yaşamıştır?

- A) Karadeniz
- B) Ege Denizi
- C) Akdeniz
- D) Marmara Denizi

11. Demokrat Parti iktidarına son veren gelişme, aşağıdakilerden hangisidir?

- A) 24 Ocak Kararları
- B) 12 Eylül 1980 Askerî Müdahalesi
- C) 12 Mart 1971 Askerî Muhtırası
- D) 27 Mayıs 1960 Askerî Darbesi

12. SSCB'de "Açıklık ve yeniden yapılanma" politikasını başlatan devlet başkanı aşağıdakilerden hangisidir?

- A) Lenin
- B) Stalin
- C) Mihael Gorbaçov
- D) Boris Yeltsin

13. Aşağıdaki devletlerden hangisinin dağılmasıyla Doğu Blok'u çökmüştür?

- A) SSCB
- B) Çekoslovakya
- C) Yugoslavya
- D) Almanya

14. Azerbaycan "Dağlık Karabağ Sorunu"nu aşağıdakilerden hangisiyle yaşamaktadır?

- A) Gürcistan
- B) Türkmenistan
- C) Kazakistan
- D) Ermenistan

15. Kırım Özerk Cumhuriyeti aşağıdaki devletlerden hangisine bağlıdır?

- A) Azerbaycan
- B) Moldova
- C) Ukrayna
- D) Gürcistan

16. Aşağıdakilerden hangisi Yugoslavya Sosyalist Federal Cumhuriyeti'nin dağılması sonucunda ortaya çıkan devletlerden biri değildir?

- A) Slovenya
- B) Makedonya
- C) Arnavutluk
- D) Hırvatistan

17. Ürdün, Suriye ve İsrail arasında hangi nehrin suyunun kullanımı konusunda sorun yaşanmaktadır?

- A) Dicle
- B) Şeria
- C) Nil
- D) Asi

3. OTURUM

18. Mavi Akım Projesi ile Samsun'a ulaştırılan doğal gaz hangi ülkeden alınmaktadır?

- A) Rusya
- B) Azerbaycan
- C) İran
- D) Türkmenistan

19. Aşağıdakilerden hangisi Türkiye'nin barış operasyonlarına katıldığı yerlerden biri değildir?

- A) Somali
- B) Arnavutluk
- C) Afganistan
- D) Pakistan

20. Süleyman Demirel'den önceki cumhurbaşkanımız aşağıdakilerden hangisidir?

- A) Abdullah Gül
- B) Turgut Özal
- C) Kenan Evren
- D) Ahmet Necdet Sezer

(462) EKONOMİ – 2

1. Üretim faktörlerinden toprağın geliri aşağıdakilerden hangisidir?

- A) Ücret
- B) Faiz
- C) Kâr
- D) Rant

2. Gelirin özelliklerine göre aşağıdakilerden hangisi gelir çeşitlerinden biridir?

- A) Bağış
- B) Miras
- C) Ücret
- D) Sadaka

3. Et fiyatlarının aşırı ölçüde artmasıyla insanların tavuk ve balığa olan taleplerinin yükselmesi, hangi ekonomi yasasına örnek olur?

- A) Arz yasasına
- B) İkame yasasına
- C) Talep yasasına
- D) Enflasyon yasasına

4. Aşağıdakilerden hangisi ekonomik büyümenin göstergelerinden biridir?

- A) Ulusal gelirin artması
- B) Ulusal gelirin düşmesi
- C) İhracat ve ithalatın düşmesi
- D) Kamu harcamalarının artması

5. Reel ücretin tanımı aşağıdakilerden hangisidir?

- A) Alınan ücretin satın alma gücü
- B) Parça başına hesaplanan ücret
- C) Zaman birimine göre hesaplanan ücret
- D) İşçinin çalışmasına karşılık aldığı para miktarı

6. Malların doğrudan doğruya bir ihtiyacı karşılamak için kullanılmasına ne ad verilir?

- A) Dolaysız tüketim
- B) Dolaylı tüketim
- C) Dağıtım
- D) Üretim

7. Doğa ve emeğin birleşmesiyle üretilmiş olan, mal veya hizmet üretiminde kullanılan her türlü maddi araçlara sermaye denir. Bu tanıma göre, aşağıdakilerden hangisi sermayenin özelliklerinden değildir?

- A) Yeni bir üretimde kullanılırlar.
- B) Önceden üretilmiş olan maddi araçlardır.
- C) Doğada sınırsız miktarda bulunurlar.
- D) Doğa ve emeğin birleşmesiyle meydana gelmişlerdir.

8. Hazırlık evresi ya da eğitim gerektiren işlerde çalışanların emeğine ne ad verilir?

- A) Vasıflı emek
- B) Objektif emek
- C) Vasıfsız emek
- D) Subjektif emek

9. Üretim faaliyetine katılan aşağıdaki elemanlardan hangisi üretim sonucunda değişikliğe uğrar?

- A) Ulaşım araçları
- B) Ham maddeler
- C) Araziler
- D) Makineler

10. Tasarruf aşağıdakilerden hangisinin oluşumunu sağlar?

- A) Giderin
- B) Üretimin
- C) Gelirin
- D) Sermayenin

11. Banka mevduat hesabındaki paranın geri alınması ile sağlanan para ekonomide gelir kabul edilmez. Bu durum, gelirin hangi özelliğine örnek oluşturur?

- A) Gelirin para ile ifade edilmesine
- B) Gelirin sürekli ve düzenli olmasına
- C) Gelirin kişilerin ekonomik güçlerini artırmalarına
- D) Gelirin üretime katılmanın karşılığı olmasına

12. Malların insanlar arasında el değiştirmesine - - - - denir. Boş bırakılan yere aşağıdakilerden hangisi yazılmalıdır?

- A) Üretim
- B) Mübadele
- C) Tüketim
- D) İnkısam

13. Türkiye'de millî gelir hesaplamaları hangi yılda başlamıştır?

- A) 1923
- B) 1924
- C) 1926
- D) 1927

14. Aşağıdakilerden hangisi rekabetin özelliklerinden değildir?

- A) Piyasada tekel oluşturması
- B) İşletmeleri daha aktif hâle getirmesi
- C) Yeni üretim yöntemlerini kullanmasını
- D) Genel olarak fiyatların düşmesini sağlaması

15. "Türkiye'nin asıl sahibi ve efendisi, gerçek üretici olan köylüdür. O hâlde herkesten daha çok refah, mutluluk ve servete hak kazanan ve layık olan da köylüdür..." Atatürk, bu söz ile aşağıdaki sektörlerden hangisinin önemini vurgulamıştır?

- A) Hizmet
- B) Tarım
- C) Sanayi
- D) Ulaşım

3. OTURUM

(468) MATEMATİK – 8

16. • Ekonomik bir ünedir.
• Karar alma merkezidir.
• Üretim faktörlerini sağlayan ve kullanan bir ünedir.
• Mal ve hizmet üreten ve satan bir ünedir.

Bu özellikler aşağıdakilerden hangisine aittir?

- A) Üretime B) Girişime
C) Kişilere D) Sermayeye

17. **Aşağıdakilerden hangisi çevre kirliliğinin nedenlerindedir?**

- A) Yeşil alanların artması
B) Altyapı işlerinin yapılması
C) Nüfusun aşırı artması
D) Çevre eğitiminin yaygınlaştırılması

18. **Fiyatlar genel seviyesinin yükselmesine ne ad verilir?**

- A) Talep B) Deflasyon
C) Enflasyon D) Arz

19. Millî gelirin üretim faktörlerinin üretimden aldıkları paylara göre dağılımına dağılım denir.

Boş bırakılan yere aşağıdakilerden hangisi yazılmalıdır?

- A) kişisel B) sektörel
C) mesleki D) fonksiyonel

20. **Maden rantının ortaya çıkış nedeni aşağıdakilerden hangisidir?**

- A) Maden üretiminde farklı teknolojiler kullanılması
B) Tarım yapılan toprakların verimliliğinin farklı olması
C) Bir madenin değişik alanlarda farklı maliyetlerde üretilmesi
D) Şehrin değişik yerlerindeki konut ve iş yeri kiralalarının farklı olması

1. $f : \mathbb{R} \rightarrow \mathbb{R}$,

$f(x) = 4x^3 + 3x^2 - x + 1$ olduğuna göre $f'(x)$ aşağıdakilerden hangisidir?

- A) $-12x^2 - 6x - 1$
B) $12x^2 + 6x - 1$
C) $12x^2 - 6x + 1$
D) $-12x^2 + 6x - 1$

2. $f : \mathbb{R} \rightarrow \mathbb{R}$,

$f(x) = x^3 + 4x - 6$ fonksiyonu veriliyor.
Buna göre $f'(1)$ kaçtır?

- A) -1 B) 3 C) 5 D) 7

3. $f : \mathbb{R} \rightarrow \mathbb{R}$,

$f(x) = \sqrt{5x^2 + 6}$ fonksiyonunun türevi aşağıdakilerden hangisidir?

- A) $\frac{10x}{\sqrt{5x^2 + 6}}$ B) $\frac{5x}{\sqrt{5x^2 + 6}}$
C) $\frac{\sqrt{5x^2 + 6}}{5x}$ D) $10x \cdot \sqrt{5x^2 + 6}$

4. $\left. \begin{array}{l} x = t^4 \\ y = 2t^3 \end{array} \right\}$ olduğuna göre

$\frac{dy}{dx}$ 'in $t = 1$ için değeri kaçtır?

- A) $\frac{3}{2}$ B) $\frac{1}{2}$
C) $-\frac{3}{2}$ D) $-\frac{5}{2}$

5. $f : \mathbb{R} \rightarrow \mathbb{R}$, $g : \mathbb{R} \rightarrow \mathbb{R}$,

$f(x) = x^2 - 4$
 $g(x) = 2x^3 + 2$ olduğuna göre $(f \circ g)'(-1)$ kaçtır?

- A) -4 B) -2 C) 0 D) 2

6. $f(x) = e^{\sin x}$ olduğuna göre

$f'\left(\frac{5\pi}{6}\right)$ aşağıdakilerden hangisine eşittir?

- A) $\frac{-\sqrt{3}e}{2}$ B) $\frac{-\sqrt{e}}{2}$
C) $\frac{\sqrt{e}}{2}$ D) $\frac{\sqrt{3}e}{2}$

7. $f(x) = \ln(x^3 + 5x^2)$ fonksiyonunun türevi aşağıdakilerden hangisidir?

- A) $\frac{3x^2 + 10x}{\ln(x^3 + 5x^2)}$ B) $\frac{3x^2}{x^3 + 5x^2}$
C) $\frac{3x^2 + 10x}{x^3 + 5x^2}$ D) $\frac{10x}{x^3 + 5x^2}$

8. $a + b = 14$ olduğuna göre $a \cdot b$ 'nin alabileceği en büyük değer kaçtır?

- A) 35 B) 42 C) 45 D) 49

9. $\int (5x^4 + 4x^3 + 5) dx$

aşağıdakilerden hangisine eşittir?

- A) $20x^4 + 12x^3 + 5x + c$
B) $20x^3 + 20x^2 + c$
C) $20x^5 + 12x^4 + 5x + c$
D) $x^5 + x^4 + 5x + c$

10. $\int \cos^6 x \cdot \sin x dx$

aşağıdakilerden hangisine eşittir?

- A) $-\frac{\sin^7 x}{7} + c$
B) $-\frac{\cos^7 x}{7} + c$
C) $\frac{\cos^7 x}{7} + c$
D) $\frac{\sin^7 x}{7} + c$

11. $\int e^{x^2} \cdot 2x dx$ aşağıdakilerden hangisine eşittir?

- A) $e^{x^2} \cdot x^2 + c$
B) $e^{x^2} \cdot x + c$
C) $e^{x^2} + c$
D) $e^{x^2} \cdot \frac{1}{x} + c$

12. $\int \frac{5}{5x-7} dx$ aşağıdakilerden hangisine eşittir?

- A) $5 \cdot e^{5x-7} + c$
B) $\ln 5 \cdot |5x-7| + c$
C) $x \cdot \ln 5 + c$
D) $\ln |5x-7| + c$

3. OTURUM

13. $\int 3^x dx$ aşağıdakilerden hangisine eşittir?

- A) $\frac{1}{\ln 3} + c$ B) $\frac{3^x}{\ln 3} + c$
C) $\frac{x}{\ln 3} + c$ D) $\frac{x^3}{\ln 3} + c$

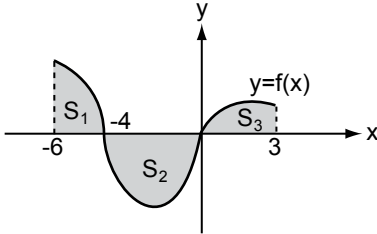
14. $\int_0^{\pi} \cos^2 x dx$ değeri kaçtır?

- A) $\frac{-\pi}{2}$ B) 0
C) $\frac{\pi}{2}$ D) π

15. $\int_{-1}^4 |x - 2| dx$ değeri kaçtır?

- A) $\frac{13}{2}$ B) $\frac{11}{2}$ C) $\frac{9}{2}$ D) $\frac{5}{2}$

16.



Yukarıda $y = f(x)$ 'in grafiği verilmiştir. S_1 , S_2 ve S_3 bulunan bölgenin alanını göstermektedir. $S_1 = 4br^2$, $S_2 = 9br^2$ ve $S_3 = 3br^2$ olduğuna göre

$\int_{-6}^3 f(x) dx$ değeri kaçtır?

- A) -8 B) -2 C) 10 D) 16

17. $y = x$, $x = 4$ ve x eksenini arasında kalan bölgenin x eksenini etrafında 360° döndürülmesiyle oluşan cismin hacmi kaç π birimküptür?

- A) $\frac{16}{3}$ B) $\frac{32}{3}$
C) $\frac{64}{3}$ D) $\frac{128}{3}$

18. $A = \begin{bmatrix} 3 - m & 2 \\ 7 & n + 1 \end{bmatrix}$ ve $B = \begin{bmatrix} 4 & 2 \\ 7 & -2 \end{bmatrix}$

matrisleri veriliyor.

$A = B$ olduğuna göre $m + n$ kaçtır?

- A) -4 B) -5 C) -7 D) -10

19. $A = \begin{bmatrix} 2011 & 2012 \\ 2013 & 2014 \end{bmatrix}$ olduğuna göre $\det(A)$ kaçtır?

- A) 1 B) 0 C) -1 D) -2

20. $A = \begin{bmatrix} 5 & 2 & 4 \\ 3 & 1 & 0 \end{bmatrix}$ matrisinin transpozu aşağıdakilerden hangisidir?

- A) $\begin{bmatrix} 3 & 1 & 0 \\ 5 & 2 & 4 \end{bmatrix}$ B) $\begin{bmatrix} 5 & 3 \\ 2 & 1 \\ 4 & 0 \end{bmatrix}$

- C) $\begin{bmatrix} 3 & 5 \\ 1 & 2 \\ 0 & 4 \end{bmatrix}$ D) $\begin{bmatrix} 4 & 0 \\ 2 & 1 \\ 5 & 3 \end{bmatrix}$

(478) MANTIK - 1

1. Mantığın konusu aşağıdakilerden hangisidir?

- A) İnsanın ruh sağlığı
B) Bilimsel yöntemin aşamaları
C) Doğa olaylarının oluşumu
D) Doğru düşünmenin kuralları

2. "Bir şeyin hem kendisi hem de kendisinden başka bir şey olduğu" ifadesi akıl ilkelerinden hangisiyle çelişir?

- A) Özdeşlik
B) Çelişmezlik
C) Yeter neden
D) Üçüncü durumun olanaksızlığı

3. Tek tek olgulardan genel önermelere ulaşmak için izlenen akıl yürütme biçimi hangisidir?

- A) Benzeşim B) Yeter sebep
C) Tümevarım D) Tümdengelim

4. Aşağıdaki düşünürlerden hangisi sembolik mantık alanında çalışmalar yapmıştır?

- A) Farabi B) İbn-i Sina
C) Aristoteles D) Leibniz

5. "Önemli olan insanlığa bir şey katmaktır." cümlesindeki "insanlık" kavramının özelliği aşağıdakilerden hangisidir?

- A) Tekil B) Tikel
C) Soyut D) Distribütif

6. Bir kavram, bireyler grubunu ifade edip grupta gerçekleşiyorsa kolektif kavram adını alır.

Aşağıdakilerden hangisi kolektif kavrama örnektir?

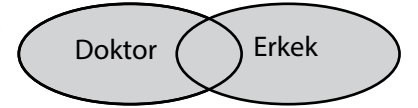
- A) Asker B) Ordu
C) Memur D) Öğretmen

7. I. Bitki
II. Çiçek
III. Canlı
IV. Varlık

Verilen terimlerin kaplamının çok olandan az olana doğru sıralaması aşağıdakilerden hangisinde verilmiştir?

- A) IV, III, I ve II
B) IV, I, II ve III
C) II, I, IV ve III
D) I, II, III ve IV

8.



Verilen diyagrama dayanarak aşağıdaki bilgilerden hangisine ulaşılır?

- A) Hiçbir erkek doktor değildir.
B) Tüm erkekler doktordur.
C) Tüm doktorlar erkektir.
D) Bazı doktorlar erkektir.

9. Yalnız bir türe ait olan özelliklere özgüllük denir.

Aşağıdakilerden hangisi insanın özgüllüğüdür?

- A) Okumak B) Uyumak
C) Koşmak D) Dinlenmek

10. "İnsan nedir?" sorusuna yanıt olarak verilen "İnsan konuşabilendir." yargısı aşağıdakilerden hangisine örnektir?

- A) Kıyas B) Tanım
C) Terim D) Benzeşim

3. OTURUM

11. Aşağıdakilerden hangisi olumsuz bir önermedir?
A) Demir serttir.
B) İnsanlar kardeştir.
C) Ali çalışkan deęildir.
D) Antalya Akdeniz bölgesindedir.
12. "İşçiler grevdedir." önermesi basit iken "Gökçe çalışırsa sınıfını geçer." önermesi bileşiktir.
Önermelerin basit veya bileşik olarak sınıflandırılmasında aşağıdakilerden hangisi temel alınmaktadır?
A) Önermenin nitelikleri
B) Yargı sayısı
C) Önermelerin karmaşıklığı
D) Önermelerin olumluluęu
13. "Bazı hayvanlar evcildir." önermesi nitelik ve nicelik bakımından ne tür bir önermedir?
A) Tümel olumlu
B) Tümel olumsuz
C) Tikel olumlu
D) Tikel olumsuz
14. Aşağıdakilerden hangisi koşullu önermeye örnektir?
A) Nazlı düzenli beslenir ise sağlıklı olur.
B) İstanbul kalabalık bir şehirdir.
C) Bilim öğretici ve mantıksaldır.
D) Bazı insanlar soęukkanlıdır.
15. "Bütün insanlar erdemlidir." tümel olumlu önermesinin çelişği olan önerme aşağıdakilerden hangisidir?
A) Bütün erdemliler insandır.
B) Hiçbir insan erdemli deęildir.
C) Bazı insanlar erdemli deęildir.
D) Bazı insanlar erdemlidir.
16. Düz döndürme, bir önermenin nitelik ve doğruluk değerini deęiştirmeden özne ve yüklem yerlerinin deęiştirilmesidir.
Buna göre "Hiçbir papatya güzel deęildir." önermesinin düz döndürmesi aşağıdakilerden hangisidir?
A) Bazı papatyalar güzel deęildir.
B) Bazı papatyalar güzeldir.
C) Bazı güzeller papatyadır.
D) Hiçbir güzel papatya deęildir.

17. Bütün insanlar ölümlüdür. Ahmet insandır. O halde ...
Yukarıda verilen kıyasta zorunlu olarak çıkarılacak sonuç önermesi aşağıdakilerden hangisidir?
A) Ahmet ölümlüdür.
B) Ahmet ölümsüzdür.
C) Ahmet ölümlü deęildir.
D) Ölümlüler Ahmet'tir.
18. "Bütün canlılar su içer. Kuş bir canlıdır. O halde kuş da canlıdır." çıkarımı geçersizdir.
Bu çıkarım aşağıdaki kıyas kurallarından hangisine uyulmadığı için geçersizdir?
A) İki olumsuz öncülden bir sonuç çıkmaz.
B) İki tikel öncülden bir sonuç çıkmaz.
C) Sonuç daima zayıf olana göre yapılır.
D) Orta terim sonuçta bulunmaz.
19. I. Bütün kuşlar kanatlıdır.
II. Serçe kuştur.
III. O halde serçe kanatlıdır.
Bu çıkarım örneğinde I. ve II. önerme öncül, III. önerme sonuçtur.
Buna göre bir önermenin sonuç önermesi olması aşağıdakilerden hangisine bağlıdır?
A) Öncüllerden zorunlu olarak çıkmasına
B) Sonucun orta terimden oluşmasına
C) Sonucun olumlu olmasına
D) Önermelerin yargı bildirmesine
20. Bütün canlılar varlıktır. Bütün hayvanlar canlıdır. Bütün hayvanlar varlıktır. Bütün kafadan bacaklılar hayvandır. Bütün kafadan bacaklılar varlıktır.
Verilen kıyas çeşidi aşağıdakilerden hangisine örnektir?
A) Kısaltılmış kıyas
B) Zincirleme kıyas
C) Basit kıyas
D) İkilem

(500) İNGİLİZCE – 6

1 - 20. sorularda boş bırakılan yere uygun gelen kelime ya da ifadeyi işaretleyiniz.

1. The taxi - - - - for you since one o'clock.
A) have been waiting
B) has been waiting
C) are waiting
D) wait
2. I have been working in the garden - - - - two hours.
A) for
B) since
C) lately
D) all day
3. We - - - - a holiday in a luxury hotel this time next weekend.
A) has
B) had
C) have
D) will be having
4. - - - - I speak to Kerim, please?
A) Is
B) Am
C) Can
D) Do
5. - - - - you open the window?
A) Could
B) May
C) Have
D) Has
6. I hate Coke. I - - - - drink it.
A) always
B) usually
C) often
D) never
7. The weather was wonderful - - - - .
A) at the moment
B) tomorrow
C) last week
D) now
8. We are going to watch a horror film - - - - .
A) tonight
B) in 1999
C) yesterday
D) two days ago

3. OTURUM

9. Ali goes to the gym - - - - .

- A) sometimes B) yesterday
C) every day D) seldom

10. My brother is working - - - - .

- A) next to B) abroad
C) behind D) under

11. I enjoyed your handbag - - - - much.

- A) so B) such
C) many D) some

12. If you don't water the flowers, they - - - - .

- A) had died B) died
C) dies D) die

13. If it doesn't rain, we - - - - on a picnic.

- A) can go B) went
C) going D) to go

14. If I - - - - rich, I would buy a new car.

- A) am B) are
C) were D) have

15. If I - - - - more, I would have passed the test.

- A) had been B) had cleaned
C) had gone D) had studied

16. The lady - - - - is sitting in the front of the bus is a nurse.

- A) whose B) where
C) which D) who

17. The car - - - - is new is very comfortable.

- A) whose B) which
C) where D) who

18. The hotel - - - - we stayed was expensive.

- A) when B) whose
C) where D) who

19. She didn't go to school - - - - she was ill.

- A) although B) because
C) so D) if

20. I had a strange dream - - - - I was sleeping.

- A) although B) before
C) when D) while

(500) ALMANCA – 6

1-19. sorularda boş bırakılan yere uygun gelen kelime ya da ifadeyi işaretleyiniz.

1. Er wünschte, er - - - - jetzt viel Geld um ein neues Auto zu kaufen.

- A) wäre B) hätte
C) hat D) ist

2. - - - - Sie bitte so nett, mir zu helfen?

Ich kann die Taschen nicht tragen.

- A) Wären B) War
C) Hätten D) Hat

3. Ahmet hat ein neues Handy gekauft. Er sagt es - - - - sehr teuer.

- A) wärst B) seien
C) hätten D) sei

4. Ich habe das Wasser nicht - - - - . (trinken, Partizip Perfekt)

- A) trinke B) trank
C) getrunken D) trinkt

5.



Ayşe hat kaltes Wasser getrunken. Sie hat - - - - .

- A) Ohrenschmerzen
B) Kopfschmerzen
C) Bauchschmerzen
D) Fieber

6.



A: Wo ist der Hund?

B: Er ist - - - - .

- A) neben dem Mädchen
B) neben dem Jungen
C) zwischen dem Jungen und dem Mädchen
D) hinter dem Jungen

7. Mein Vater wird morgen nicht - - - - .

- A) arbeiten B) arbeite
C) arbeitest D) arbeitet

8. A: Was - - - - er - - - - Beruf?
B: Pilot.

- A) bin / ein B) von / ist
C) ist / von D) sind / im


9. A: Heike, was möchtest du - - - - ?

B: Ich möchte ein Salad.

- A) esse B) trinken
C) trinke D) essen

3. OTURUM

10.



A: Wo sind die Äpfel, - - - - mein Vater gekauft hat?

B: Sie sind im- - - -

- A) das / Ofen
- B) den / Tisch
- C) die / Kühlschrank
- D) der / Waschmaschine

11. Ist das der Junge, mit - - - - du immer Fußball spielst?

- A) das B) den
- C) dem D) die

12. Wenn man Durst hat, muss man Wasser - - - - .

- A) trinken B) essen
- C) schreiben D) laufen

13. Das Wetter ist - - - - Juli sehr heiß.

- A) an B) im C) am D) in

14. Freitag, Samstag, - - - -

- A) Donnerstag B) Mittwoch
- C) Montag D) Sonntag

15. Ayşe und Fatma haben neu- - - - Sportschuhe gekauft.

- A) - B) -e C) -es D) -en

16. Thomas kommt immer zu spät in die Schule.

Wenn er doch nur früher kommen - - - - .

- A) würden B) würde
- C) waren D) wäre


17. Die Kinder, - - - - Eltern das neue Haus gekauft haben, sind in unserer Schule. (Genitiv)

- A) dessen B) denen
- C) deren D) mit den

18. Meine Mutter sagt, ich - - - - sehr gut in tanzen. (Konjunktiv I)

- A) bin B) ist C) bist D) sei

19.



A: Wie spät ist es?

B: Es ist - - - - .

- A) zwanzig nach fünf
- B) zwanzig vor fünf
- C) fünf Uhr
- D) halb fünf

20.



Was macht das Mädchen?

- A) Ein Buch lesen
- B) Fahrrad fahren
- C) Frühstücken
- D) Musik hören

(500) FRANZISCA – 6

1 - 18. sorularda boş bırakılan yere uygun gelen kelime ya da ifadeyi işaretleyiniz.

1. La sœur de mon père est ma - - - - .

- A) tante B) grand-mère
- C) nièce D) oncle

2. Semih est le frère de Canan et Canan est - - - - de Semih.

- A) la nièce B) l'oncle
- C) la sœur D) le frère

3. - - - - boivent trois tasses de café par jour.

- A) Elle B) Nous
- C) Je D) Elles

4. A : Nicole n'est pas mariée?

B : Si, elle est - - - - . Elle a deux fils.

- A) célibataire B) fiancée
- C) mariée D) veuve

5. Hier soir, elles - - - - parties pour l'Espagne.

- A) ont B) sont
- C) vont D) dont

6. Le lycée est - - - - .

- A) un lieu de repos
- B) un lieu de travail
- C) un lieu de vacances
- D) un lieu pour le mariage

7. Quand vous prenez votre voiture, - - - - votre ceinture.

- A) mettez B) a mis
- C) mettre D) met

3. OTURUM

8. Suna, on traverse la rue : - - - -
-moi la main!

- A) donné B) ayant donné
C) donne D) donner

9. Hier, Tarik - - - - chez le médecin.

- A) est allée B) est allé
C) es allée D) suis allé

10. Il fait très froid : - - - - votre
manteau!

- A) suivez B) chantez
C) mangez D) mettez

11. Ils regardent la télévision en
- - - - du thé.

- A) boire B) boivent
C) buvant D) manger

12. En venant, - - - - du fromage
blanc!

- A) achète B) acheter
C) a acheté D) acheté

13. Ils aiment - - - - à la piscine le
dimanche.

- A) comprendre B) mettre
C) nager D) connaître

14. Les Dupont vont - - - - Istanbul
- - - - Turquie.

- A) au / en B) en / au
C) à / aux D) à / en

15. Nous passons à table, - - - -
-vous les mains!

- A) parler B) lavez
C) parlez D) laver

16. Ne mangez pas avec - - - - !

- A) le ventre B) les jambes
C) les doigts D) le cou

17. Chez ta tante, - - - - sage!

- A) toi B) aie
C) ayons D) sois

18. Le petit déjeuner est servi - - - -
ma femme.

- A) par B) au
C) des D) en

19 - 20. sorularda verilen
cümlelerin Türkçe dengini
işaretleyiniz.

19. Paul a acheté cette voiture
blanche.

- A) Paul beyaz arabasını satmak
istiyor.
B) Paul bu beyaz arabayı satın
aldı.
C) Paul yeşil arabasını sık sık
yıkıyor.
D) Bu araba Paul tarafından satın
alınacak.

20. Ces belles fleurs ont été
cueillies par Ayşegül.

- A) Ayşegül bu güzel çiçeklerin
resmini yapıyor.
B) Ayşegül'ün topladığı çiçekler
mis gibi kokuyor.
C) Bu güzel çiçekler Ayşegül tara-
findan toplandı.
D) Şu renk renk çiçekleri Ayşegül
getirdi.

(503) SEÇMELİ TARİH – 3

1. Osmanlılar ilk olarak aşağı-
daki hangi Türk beyliğinin
hâkimiyetine son vermişlerdir?

- A) Karesioğulları
B) Candaroğulları
C) Saruhanoğulları
D) Karamanoğulları

2. Osmanlı hükümdarı Yıldırım
Bayezit ilk teşkilatlı tersaneyi,
aşağıdaki yerlerden hangisinde
kurmuştur?

- A) İskenderun B) Trabzon
C) Gelibolu D) Tekirdağ

3. • Anadolu Türk birliği bozuldu.
• Bizans Devleti'nin ömrü yaklaşık
elli yıl uzadı.
• Avrupa yönünde ilerleme ve
fetihler durdu.

Verilen sonuçlar aşağıdaki hangi
savaşa aittir?

- A) Çirmen B) Ankara
C) Köseadağ D) Miryokefalon

4. Osmanlı Devleti'nde "Akçe" adı
verilen ilk Osmanlı parası, aşağı-
daki hangi padişah dönemin-
de bastırılmıştır?

- A) Osman Bey B) Orhan Bey
C) I. Murat D) II. Bayezit

5. Erdel Voyvodası Jan Hünyad,
Varna yenilgisinin öcünü almak
için Alman ve Macarlarla ortak
hareket ederek Osmanlılara
yeniden saldırdığı savaş, aşağı-
dakilerden hangisidir?

- A) I. Kosova B) II. Kosova
C) Niğbolu D) Mohaç

6. Aşağıdaki Osmanlı padişah-
larından hangisinin unvanı
"Fatih"tir?

- A) I. Süleyman B) II. Selim
C) IV. Murat D) II. Mehmet

7. Uzun Hasan Dönemi'nde
Akkoyunlu Devleti ile Osmanlı
Devleti arasındaki ilişkilerin iyi
olmadığına kanıt olarak, aşağı-
dakilerden hangisi gösterilebilir?

- A) Genç Osman'ın öldürülmesi
B) Fetret Devri'ne girilmesi
C) Otlukbeli Savaşı
D) Ridaniye Savaşı

8. Osmanlı Devleti'nde kapıkulu
askerlerine üç ayda bir ödenen
maaşa verilen isim, aşağıdaki-
lerden hangisidir?

- A) Ulufe B) Cülûs
C) Metelik D) Cebelü

3. OTURUM

9. Rönesans hareketleri ilk aşğıdaki ülkelerden hangisinde başlamıştır?
- A) İngiltere B) İspanya
C) Fransa D) İtalya
10. Osmanlının askerî bürokrasisini oluşturan kol, aşğıdakilerden hangisidir?
- A) Kalemîye B) Seyfiye
C) İlmiye D) Mevali
11. Çaldıran Savaşı, aşğıdaki hangi iki devlet arasında yapılmıştır?
- A) Osmanlı ile Safevi
B) Memlûk ile Osmanlı
C) Osmanlı ile Akkoyunlu
D) Akkoyunlu ile Karakoyunlu
12. Orhan Bey tarafından ilk Osmanlı medresesi, aşğıdaki yerleşim yerlerinden hangisinde açılmıştır?
- A) İznik B) İzmit
C) Söğüt D) Bursa
13. • Preveze Savaşı
• Kıbrıs'ın Fethi
• Rodos'un fethi
- Osmanlı'nın Yükselme Dönemi'nde meydana gelen bu üç olayın ortak özelliği, aşğıdakilerden hangisidir?**
- A) Osmanlıların batı yönündeki topraklarını genişletmeye yönelik olması
B) Her üç savaşa da Barbaros Hayrettin Paşa'nın komuta etmesi
C) Akdeniz'de Türk üstünlüğünün gerçekleştirilmiş olması
D) Kanuni Dönemi'nin siyasi olaylarından olmaları
14. Osmanlılarda tapu ve kadastro işlerini düzenlemek, yeni fethedilen toprakları kaydetmek ve dirliklerin defterlerini tutmak, aşğıdaki divan üyelerinden hangisinin görevleri arasındadır?
- A) Şeyhülislam B) Defterdar
C) Kazasker D) Nişancı
15. Aşğıdakilerden hangisi Coğrafi Keşifler'i başlatan nedenlerden biridir?
- A) Atlas Okyanusu kıyılarındaki bazı liman şehirlerinin önem kazanması
B) Müslümanların İpek ve Baharat yolları üzerindeki egemenliğini kırmak için yeni yollar arama düşüncesi
C) Matbaanın öğrenilmesiyle çeşitli Eski Yunan ve Roma eserlerinin matbaada basılarak yeni bilgilerin kolayca yayılması
D) Kavimler Göçü'nün başlaması
16. Osmanlı toprak yapısı içinde gelirleri padişah kızlarına, annelerine ve eşlerine ayrılan topraklara - - - - denirdi."
- Cümledeki boşluğa aşğıdaki terimlerden hangisi yazılırsa tanımlama doğru yapılmış olur?**
- A) ocaklık B) mukataa
C) malikâne D) paşmaklık
17. Fransa Kralı XIV. Lui ile özdeşleşen söz, aşğıdakilerden hangisidir?
- A) Devlet demek ben demektir.
B) Ekmek bulamıyorlarsa pasta yesinler.
C) Cihangirane bir devlet çıkardık bir aşiretten.
D) Çıplak milleti elbiseli, fakir milleti zengin kıldım.
18. III. Murat Dönemi'nin ünlü bilgincilerinden olan Takiyuddin bin Mehmet, aşğıdaki hangi bilim dalında ün yapmıştır?
- A) Tıp B) Kimya
C) Astronomi D) Arkeoloji
19. Osmanlı Devleti'nin toprak kaybettiği ilk antlaşma, aşğıdakilerden hangisidir?
- A) Küçük Kaynarca
B) Karlofça
C) Vasvar
D) Bucaş
20. Reform hareketleri sonucunda İskoçya'da "Presbiteryen" adıyla kabul edilmiş olan mezhep, aşğıdakilerden hangisidir?
- A) Kalvenizm
B) Protestanlık
C) Katoliklik
D) Anglikanizm

(504) SEÇMELİ TARİH – 4

1. Osmanlı Devleti ile imzaladığı Pasarofça Antlaşması'yla en geniş sınırlarına ulaşan devlet aşğıdakilerden hangisidir?
- A) Avusturya B) İspanya
C) Almanya D) Lehistan
2. 1702 - 1714 yılları arasında aşğıdaki hangi devletler arasında "Veraset Savaşları" yapılmıştır?
- A) Almanya ile Avusturya
B) Avusturya ile İtalya
C) Fransa ile İspanya
D) İspanya ile Portekiz
3. 18. yüzyıl boyunca aşğıdaki devletlerden hangisi Karadeniz yoluyla Boğazlardan Akdeniz'e çıkma politikasını gerçekleştirmek için çalışmıştır?
- A) İran B) Rusya
C) Sırbistan D) Avusturya
4. "II. Mustafa, - - - - sonucunda tahttan indirilmiş ve yerine III. Ahmet padişah olmuştur."
- Verilen cümlelerin doğru olabilmesi için boş bırakılan yere, aşğıdakilerden hangisi yazılmalıdır?**
- A) Fransız İhtilali
B) Bağdat Seferi
C) 31 Mart Olayı
D) Edirne Olayı
5. Fransız İhtilali ile dünyaya yayılan aşğıdaki düşünce ve ilkelerden hangisi çok uluslu devletlerin parçalanmasında etkili olmuştur?
- A) Demokrasi B) Özgürlük
C) Milliyetçilik D) İnsan hakları

3. OTURUM

6. Poltova Savaşı'nda Rusya'ya yenilen devlet aşağıdakilerden hangisidir?

- A) Avusturya B) Venedik
C) İtalya D) İsveç

7. Avusturya, aşağıdaki savaşların hangisinde Osmanlı'dan hem Belgrad'ı hem de Osmanlı'nın Macaristan'daki son eyalet merkezi olan Temeşvar'ı ele geçirmiştir?

- A) 1715 – 1718 Osmanlı - Venedik ve Avusturya Savaşları
B) 1736 – 1739 Osmanlı - Rus ve Avusturya Savaşları
C) 1787 – 1792 Osmanlı - Rus ve Avusturya Savaşları
D) 1853 – 1856 Kırım Savaşı

8. İran ile yapılan aşağıdaki antlaşmalardan hangisinde 1639 tarihli Kasrışirin Antlaşması'ndaki Türk – İran sınırları esas alınmıştır?

- A) Ahmet Paşa Antlaşması
B) Ferhat Paşa Antlaşması
C) Kerden Antlaşması
D) Serav Antlaşması

9. Aşağıdakilerden hangisi, Sanayi İnkılabı'nın sonuçlarından biri değildir?

- A) Refahın artması
B) Derebeyliğin yıkılması
C) İşçi sınıfının ortaya çıkması
D) Pazar bulma ihtiyacının doğması

10. "Amerika Birleşik Devletleri" adı ile federal bir devlet, aşağıdaki yılların hangisinde kurulmuştur?

- A) 1774 B) 1776
C) 1783 D) 1787

11. Avrupa mimarisinin etkisinde İstanbul'da yapılan ilk eser, aşağıdakilerden hangisidir?

- A) Sultan Ahmet Camisi
B) Nuruosmaniye Camisi
C) Nusretiye Camisi
D) Ortaköy Camisi

12. Osmanlı Devleti'nde azınlıklara ilk defa aşağıdakilerden hangisiyle il genel meclislerine üye olabilme hakkı tanınmıştır?

- A) Kanunuesasi
B) Senediittifak
C) Islahat Fermanı
D) Tanzimat Fermanı

13. 18. yüzyılda Rusya ile birlikte hareket ederek Osmanlı'nın Balkan topraklarını ele geçirmeye çalışan Avusturya, aşağıdakilerin hangisinden dolayı bu politikasından vazgeçerek Osmanlı Devleti'nin toprak bütünlüğünü korumaya yönelmiştir?

- A) Fransız İhtilali
B) I. Balkan Savaşı'nın çıkması
C) Tanzimat Fermanı'nın yayımlanması
D) Amerika Birleşik Devletleri'nin kurulması

14. Erzurumlu Nene Hatun ismiyle özdeşleşen savaş aşağıdakilerden hangisidir?

- A) 93 Harbi
B) Kırım Savaşı
C) Mohaç Savaşı
D) Trablusgarp Savaşı

15. Osmanlı Devleti'nde parlamenter sisteme ilk hangi tarihte geçilmiştir?

- A) 1808 B) 1839
C) 1856 D) 1876

16. I. Dünya Savaşı'nın cephelerinden biri olan "Kanal Cephesi" ile kastedilen kanal aşağıdakilerden hangisidir?

- A) Kiel B) Korint
C) Süveyş D) Panama

17. Mızıkayihümayun'u kurarak özgün bir müzik eğitimi başlatan Osmanlı padişahı, aşağıdakilerden hangisidir?

- A) II. Mahmut B) I. Mahmut
C) III. Selim D) II. Abdülhamit

18. • Sanayiinefise Mektebinde eğitim görürken açılan bir yurt dışı sınavını kazanarak Fransa'ya gitmiştir.
• Paris Güzel Sanatlar Akademisi mezunudur.
• "1914 Kuşağı" ressamlarından.
• Sanatçı resimlerinde desenden çok renge önem vermiştir.
• Resimlerinde konu olarak manzaralar, portreler, natüremortlar, tarihten ve günlük yaşamdan kesitler bulunur.
• Sanatçının önemli eserleri arasında "Manolyalar", "Gül Koklayan Kadın", "Mevleviler", "Mor Salkımlar" ve "Hamakta Kadın" sayılabilir.

Hakkında kısa bir bilgi verilen sanatçı aşağıdakilerden hangisidir?

- A) Abidin Dino
B) İbrahim Çallı
C) Osman Hamdi Bey
D) Bedri Rahmi Eyuboğlu

19. Yemen ve Hicaz bölgesi, Osmanlı Devleti'nin elinden aşağıdaki hangi savaşın sonucunda çıkmıştır?

- A) Trablusgarp Savaşı
B) II. Balkan Savaşı
C) II. Dünya Savaşı
D) I. Dünya Savaşı

20. II. Abdülhamit Han, aşağıdaki olaylardan hangisini bahane ederek anayasal düzene son vermiştir?

- A) 31 Mart Olayı'nı
B) Patrona Halil İsyanı'nın çıkmasını
C) 1877 - 1878 Osmanlı - Rus Savaşı'nı
D) Genç Osman'ın yeniçeriler tarafından öldürülmesini

3. OTURUM

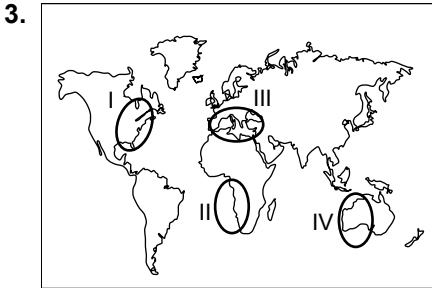
(505) SEÇMELİ COĞRAFYA – 3

1. Püskürük kayalar yerin derinliklerinde veya yüzeyinde oluşmalarına göre iki gruba ayrılırlar. **Aşağıdaki kayalardan hangisi yerin derinliklerinde oluşmuştur?**

A) Granit B) Gabro
C) Andezit D) Diorit

2. Bir bölgedeki kayaların önceki devirlerde metamorfizmaya uğradıkları tespit edilmiştir. **Bölgedeki kayaç türlerinin geçmişi ile ilgili aşağıdaki yargılardan hangisi kesinlikle doğrudur?**

A) Aşırı basınç ve sıcaklığa maruz kalmışlardır
B) Çok gür bitki örtüsü altında oluşmuşlardır
C) Tortulaşmanın yoğun olarak yaşandığı bölgede oluşmuşlardır
D) Tektonik depremlere ve volkanik faaliyetlere maruz kalmışlardır



Haritada numaralanmış alanlardan hangisinde deprem, volkanizma ve sıcak su kaynakları yaygındır?

A) I B) II C) III D) IV

4. **Aşağıdakilerden hangisinin dağılışı ile volkanik arazilerin dağılışı arasında benzerlik vardır?**

A) Taş kömürü yatakları
B) Sıcak su kaynakları
C) Kurak iklimler
D) Karstik araziler

5. **Aşağıdaki ülkelerden hangisinde deprem riski daha azdır?**

A) Japonya B) İzlanda
C) Nijerya D) İtalya

6. Kıyı set gölleri kıyı kordonlarının bir koy veya körfezin önünü kapatması sonucu oluşan göllerdir. Bu göllere - - - - veya - - - - denilmektedir.

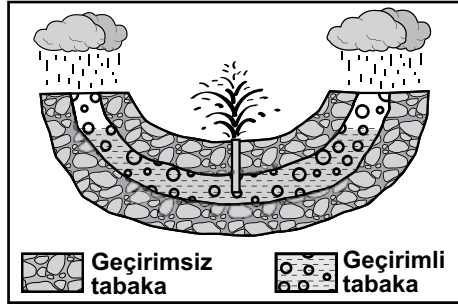
Yukarıdaki paragrafta boş bırakılan alanlara aşağıdaki ifadelerden hangileri gelmelidir?

A) haliç – delta
B) lagün – deniz kulağı
C) moren – lös
D) krater – maar

7. **İnsanların doğa üzerindeki etkinliğinin artması aşağıdaki göl türlerinden hangisinde belirgin bir artışa neden olmuştur?**

A) Tektonik göller
B) Karstik göller
C) Buzul gölleri
D) Baraj gölleri

8.



Şekilde gösterilen kaynak türünün adı nedir?

A) Fay kaynağı
B) Gayzer kaynağı
C) Karstik kaynak
D) Artezyen kaynağı

9.

	Yıllık Yağış Miktarı (mm)	Yıllık Sıcaklık Farkı (C°)
I	700	19
II	1200	12
III	530	20
IV	250	26

Verilen merkezlerden hangisinde aynı kayaç türünde kimyasal ayrışma şiddeti daha fazladır?

A) I B) II C) III D) IV

10. Yağış yoluyla yıkanma, topraktaki tuz ve kireç birikiminin azalmasına neden olmaktadır.

Aşağıdaki toprak tiplerinden hangisinde tuz ve kireç birikimi daha fazladır?

A) Laterit topraklar
B) Çöl toprakları
C) Podzol toprakları
D) Alüvyal topraklar

11. I. Çok sık ve gür olması
II. Kışın yapraklarını dökmesi
III. Tür çeşitliliğinin az olması
Yukarıdakilerden hangileri muson ormanları ile ekvatorial yağmur ormanlarının benzer özellikleridir?

A) Yalnız I B) Yalnız II
C) I ve III D) II ve III

12. **Aşağıdaki bitki örtülerinden hangisi daha düşük sıcaklıklara dayanıklıdır?**

A) Maki
B) Muson ormanları
C) Tayga ormanları
D) Orta kuşağın karışık ormanları

13. **Aşağıdakilerden hangisi günümüzde yapılan modern nüfus sayımlarının amaçlarından değildir?**

A) Nüfusun yaş gruplarının belirlenmesi
B) Kent ve kırsal nüfusunun belirlenmesi
C) Nüfusun cinsiyete göre dağılımının belirlenmesi
D) Nüfusun beslenme alışkanlıklarının tespit edilmesi

14. **Sanayi Devrimi'nin aşağıdaki sonuçlarından hangisi nüfus artışı üzerinde etkili olmuştur?**

A) Sağlık koşullarının iyileşmesi
B) Hammadde ihtiyacının artması
C) Yeni pazar arayışlarının başlaması
D) Doğal kaynaklara talebin artması

3. OTURUM

15. Aşağıdakilerden hangisi nüfusun seyrek olma nedenlerindedir?

- A) Uygun iklim koşullarının görülmesi
- B) Verimli tarım alanlarının bulunması
- C) Sanayi ve ticaretin gelişmiş olması
- D) Arazinin yüksek ve engebeli olması

16. Türkiye'den Almanya'ya 1960'lardan itibaren yapılan göçler aşağıdakilerden hangisine örnektir?

- A) Mübadele göçleri
- B) İş gücü göçleri
- C) Beyin göçü
- D) Kavimler göçü

17. • Tarım yapıldı.
• Yerleşik hayata geçildi.
• Ticaret başladı.

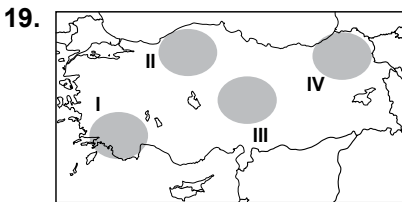
Yukarıda verilenler hangi çağda meydana gelmiştir?

- A) Paleolitik
- B) Mezolitik
- C) Neolitik
- D) Kalkolitik

18. I. Kuzey Anadolu Dağları oluşmuştur.
II. Linyit yatakları oluşmuştur.
III. Egeit karası çökerek Ege denizi oluşmuştur.
IV. Tetis denizinde yoğun birikme olmuştur.

Türkiye arazisi ile ilgili yukarıda verilen durumlardan hangileri Tersiyer Dönemi'nde gerçekleşmiştir?

- A) I ve II
- B) I ve III
- C) II ve IV
- D) III ve IV



Haritada numaralanmış alanlardan hangisinde karstik şekiller daha yaygındır?

- A) I
- B) II
- C) III
- D) IV

20. Türkiye Ocak ayı ortalama sıcaklık dağılışıyla ilgili aşağıdakilerden hangisi söylenemez?

- A) Kıyılardan iç kesimlere doğru sıcaklıklar düşer
- B) En soğuk yerler Kuzeydoğu Anadolu'dadır
- C) Batı kıyıları kuzey kıyılarından daha sıcaktır
- D) En yüksek sıcaklıklar Doğu Anadolu'da yaşanır

(506) SEÇMELİ COĞRAFYA – 4

1. Organik maddece zengin olmayan, üzerinde çoğunlukla turuncgiller ve zeytin tarımının yapıldığı, Ege ve Akdeniz bölgelerinin yaygın toprak türünün adı nedir?

- A) Çernezyomlar
- B) Kırmızı Akdeniz toprakları
- C) Kahverengi orman toprakları
- D) Kestane renkli bozkır toprakları

2. Alüvyal topraklar için aşağıdakilerden hangisi söylenemez?

- A) Akarsuların aşındırıp taşıdığı malzemelerin birikmesiyle oluşmuşlardır
- B) Bafra, Çarşamba ve Çukurova gibi delta ovalarımızı oluşturmuşlardır
- C) Tarımsal verimi yüksek ovalar oluştururlar
- D) Oluşumunu arazi eğiminden başka bir faktör etkilememiştir

3. Aşağıdakilerden hangisi asıl orman ürünüdür?

- A) Kağıt
- B) Sığla
- C) Reçine
- D) Keçi boynuzu

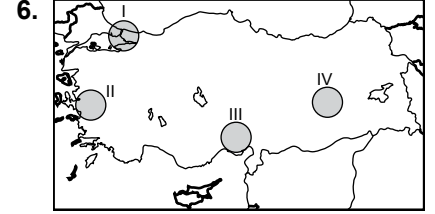
4. I. Akımı yüksek çok fazla akarsuyun dökülmesi
II. Buharlaşmanın az olması
III. Belirli derinlikten sonra canlı hayatının olmaması
IV. Kıyılarında az sayıda koy ve körfez bulunması

Verilenlerden hangileri Karadeniz'de tuz oranının düşük olmasının nedenidir?

- A) I ve II
- B) II ve III
- C) II ve IV
- D) III ve IV

5. Aşağıdakilerden hangisi nüfus ve yerleşmenin dağılışını etkileyen beşeri faktörlerden değildir?

- A) Ulaşım
- B) Sanayi
- C) Bitki örtüsü
- D) Dış göçler



Haritada numaralanmış alanların hangisinde nüfus yoğunluğu düşüktür?

- A) I
- B) II
- C) III
- D) IV

7. Şehirleri ekonomik fonksiyonlarına göre sınıflandırdığımızda İstanbul'u hangi gruba dahil edemeyiz?

- A) Ticaret
- B) Ulaşım
- C) Tarım
- D) Turizm

8. Aşağıdakilerden hangisi Türkiye'nin genel nüfusunda kadın erkek nüfus oranını değiştirmiştir?

- A) Kırdan kente göç
- B) Birinci Dünya Savaşı
- C) Sanayileşmeye önem verilmesi
- D) Tarımda modern yöntemlerin yaygınlaşması

9. 1927'den günümüze nüfus verilerine bakarak aşağıdakilerden hangisini söyleyemeyiz?

- A) Son yıllarda nüfus artış hızımız düşmektedir
- B) Kentsel nüfus miktarımız artmaktadır
- C) Okuryazar nüfus oranımız artmaktadır
- D) Nüfus yoğunluğumuz azalmaktadır

10. Aşağıdakilerden hangisi Türkiye'nin iş gücü göçü verdiği Orta Doğu ülkesidir?

- A) Suudi Arabistan
- B) Kazakistan
- C) Avustralya
- D) Rusya

3. OTURUM

11. Binlerce yıl faaliyette olan İpek Yolu'nun Asya ve Avrupa kıtalarına kazandırdığı sosyal ve kültürel zenginlik aşağıdakilerden hangisidir?

- A) Ulaşım sistemlerinin gelişmesi
- B) Avrupa'da sanayi devriminin önünü açması
- C) Farklı medeniyetlere ait kültürel zenginliklerin birbirine aktarılması
- D) Avrupa'nın mali açıdan güçlenmesi

12. Coğrafi keşifler sonucu ilk kez Bartelmi Diaz'ın ulaştığı yer neresidir?

- A) Ümit Burnu
- B) Bering Boğazı
- C) Aden Körfezi
- D) Cebelitarık Boğazı

13. Coğrafi keşifler sonucu aşağıdaki yerlerden hangisinin ticaretteki önemi azalmıştır?

- A) Amerika kıtasının
- B) Hindistan yarımadasının
- C) Akdeniz limanlarının
- D) Atlas okyanusu limanlarının

14. Aşağıdaki icat ve gelişmelerden hangisi günümüze daha yakın zamanda gerçekleşmiştir?

- A) Radyo istasyonlarının kurulması
- B) Kişisel bilgisayarın üretilmesi
- C) Renkli televizyonların üretilmesi
- D) İlk internet bağlantısının kurulması

15. Japonya'dan gemiye yüklediği otomobilleri en kısa yoldan ABD'nin Atlas Okyanusu kıyısındaki limana götürmek isteyen gemi kaptanı hangi su yolunu kullanmak zorundadır?

- A) Korint Kanalı
- B) Süveyş Kanalı
- C) Panama Kanalı
- D) Macellan Boğazı

16. Aşağıdaki meteorolojik kökenli afetlerden hangisi ülkemizde daha az yaşanır?

- A) Erozyon
- B) Sel
- C) Çığ
- D) Hortum

17. Aşağıdakilerden hangisi erozyonun şiddetini ve etkisini azaltan bir uygulamadır?

- A) Eğimli yerlerde teraslama yapmak
- B) Tarım alanlarını eğim yönünde sürmek
- C) Tarım arazilerini yerleşime ve sanayiye açmak
- D) Ormanları tarım alanlarına dönüştürmek

18. Karedeniz bölgesinde kuzeye bakan yamaçların hangi özelliği heyelan olaylarının güneye bakan yamaçlardan daha sık görülmesinin sebebidir?

- A) Nüfusun fazla olması
- B) Yağışın fazla olması
- C) Bitki örtüsünün gür olması
- D) Sıcaklık farkının az olması

19. Aşağıdakilerden hangisi sel ve taşkın afetlerinin çok yaşandığı ülkelerden biridir?

- A) Almanya
- B) Libya
- C) Kanada
- D) Bangladeş

20. Deprem sırasında aşağıdakilerden hangisini yapmak yanlıştır?

- A) Telaş yapmamak sakin olmak
- B) Balkon ve asansörlere yönelmek
- C) Enerji kaynaklarını devre dışı bırakmak
- D) Güvenli bir yerde eller başın üstünde çömelmek

(533) HZ. MUHAMMED'İN HAY. – 3

1. İslam'dan önce Arap yarımadasında insanların çoğu, hem Allah'a inandığını söylüyor hem de tapıkları putlardan yardım bekliyorlardı. Onlara göre putlar Allah'a ulaşmanın ve O'nun hoşnutluğunu kazanmanın bir yolu idi.

Metinde anlatılan inanç sistemine sahip olan kişilere ne denir?

- A) Hanif
- B) Müşrik
- C) Ateist
- D) Mecusi

2. İslam öncesi Arap yarımadasındaki sosyal hayat ile ilgili aşağıda verilenlerden hangisi yanlıştır?

- A) Kâbe kutsal sayılmaz ve ziyaret edilmezdi.
- B) Kabilecilik anlayışı hâkimdi.
- C) Sözlü edebiyat ve şiir gelişmişti.
- D) Putlara tapmak en yaygın inançlardan biriydi.

3. Aşağıda verilen, Hz. Peygamber'in akrabaları ve yakınlık dereceleri eşleştirmelerinden hangisi yanlıştır?

- A) Abdülmuttalib-amcası
- B) Abdullah-babası
- C) Âmine-annesi
- D) Rukiye-kızı

4. Mekkelilerin Peygamberimize hitap biçimlerinden biri olan "Muhammed'ül Emin" ifadesi aşağıdaki anlamlardan hangisini içermez?

- A) Hep haktan ve adaletten yana olma
- B) Her zaman doğruyu söyleme
- C) Yetim olarak dünyaya gelme
- D) Güvenilir ve dürüst olma

5. Peygamberimizin çocukluk ve gençlik yılları ile ilgili aşağıda verilen bilgilerden hangisi yanlıştır?

- A) 571 yılında Mekke'de doğdu.
- B) 577 yılında annesi vefat etti.
- C) Sütannesi Hz. Halime'nin yanında dört yıl kaldı.
- D) Dedesinin ölümünden sonra amcası Abbas'ın himayesine verildi.

3. OTURUM

6. Peygamber Efendimizin gençlik yıllarında bile her zaman adaletten yana, haksızlığın karşısında, mazlumların yanında olduğunu gösteren en önemli örnek aşağıdakilerden hangisidir?

- A) Hz. Hatice ile evlenmesi
- B) Ficar savaşlarına katılması
- C) Hilfu'l-Fudul cemiyetine üye olması
- D) Amcası Ebu Talip'e işlerinde yardımcı olması

7. Aşağıdakilerden hangisi Hz. Muhammed (sav.)'in çocuklarından biri değildir?

- A) Zeyd
- B) Kasım
- C) İbrahim
- D) Fatıma

8. "Allah bana ondan daha hayırlısını vermedi. Halk bana inanmazken o inandı. Herkes bana yalancı derken o doğru söylediği mi kabul etti. Kimse bana bir şey vermezken o beni maliyla destekledi ve Cenab-ı Hak ondan bana çocuklar ihsan etti."

Peygamber Efendimizin bu ifadesinde bahsettiği eşi kimdir?

- A) Hz. Aişe
- B) Hz. Safiye
- C) Hz. Hatice
- D) Hz. Zeynep

9. • 610 yılı
• Hira mağarası
• Ramazan ayı
• Kadir gecesi

Verilenler İslam tarihi açısından neyi ifade eder?

- A) İsrâ ve Miraç olayını
- B) Mekke'den Medine'ye hicreti
- C) Beş vakit namazının farz kılınmasını
- D) Hz. Muhammed'e (sav.) ilk vahyin indirilmesini

10. Peygamber Efendimiz İslam'ı tebliğ etmeye ilk olarak aşağıdakilerin hangisinden başlamıştır?

- A) Köle ve cariyelerden
- B) Akraba ve yakınlarından
- C) Çevre kabile reislerinden
- D) Mekke'nin ileri gelenlerinden

11. Aşağıdakilerden hangisi Mekkeli müşriklerin Müslümanlara uyguladığı baskı ve işkencelerden biri değildir?

- A) Yasir ve Sümeyye'nin şehit edilmesi
- B) Hicret eden bazı Müslümanların mallarına el konulması
- C) Müslümanlara üç yıl süren boykot uygulanması
- D) Müslümanların ateş çukurlarına atılıp öldürülmesi

12. İslam tarihinde 620 senesine "hüzün yılı" denmesinin sebebi aşağıdakilerden hangisidir?

- A) Ebu Talip ve Hz. Hatice'nin vefat etmeleri
- B) Uhut savaşında Peygamberimizin yaralanması
- C) Hz. Hamza ve Hz. Mus'ab bin Umeyr'in şehit edilmesi
- D) Hz. Peygamber'in Taif halkı tarafından hoş karşılanmaması

13. Mekkeli müşriklerin Hz. Muhammed (sav.)'i öldürme kararını aldıkları yer aşağıdakilerden hangisidir?

- A) Kâbe
- B) Dâru'l-Erkam
- C) Akabe
- D) Dâr'un-Nedve

14. Aşağıdakilerden hangisi Peygamberimizin Medine'ye hicreti sırasında yaşanan olaylardan biri değildir?

- A) Cuma namazının kılınması
- B) Kûba Mescidinin inşa edilmesi
- C) Akabe görüşmelerinin yapılması
- D) Sevr mağarasında üç gün beklenmesi

15. Müslüman komutanlarından Hz. Zeyd bin Harise, Hz. Cafer bin Ebi Talip ve Hz. Abdullah bin Revaha'nın şehit olduğu, Bizans ile yapılan ilk savaş aşağıdakilerden hangisidir?

- A) Uhut savaşı
- B) Mûte savaşı
- C) Hayber savaşı
- D) Huneyn savaşı

16. Peygamber Efendimizin vefatı ve defni ile ilgili aşağıda verilenlerden hangisi yanlıştır?

- A) 8 Haziran 632 tarihinde Medine'de vefat etti.
- B) Hz. Ali tarafından yıkılıp kefenlendi.
- C) Kabrinin bulunduğu yere Ravza-i Mutahhara ismi verildi.
- D) Mekke'de defnedildi.

17. Aşağıdaki hadislerden hangisi konusu itibarıyla diğerlerinden farklıdır?

- A) "Sağlıklı olmak, bir dünya dolu su mala sahip olmaktan daha hayırlıdır. Sağlıklı ve huzurlu olmak Allah'ın verdiği bir nimettir."
- B) "Allah'tan mağfiret ve huzur dileyin. Çünkü bir kimseye imandan sonra sağlıktan daha hayırlı bir şey verilmemiştir."
- C) "İki nimet vardır ki insanların çoğu bunlardan habersizdir. Bunlar sağlık ve boş vaktir."
- D) "Allah sizin şekillerinize ve mallarınıza değil, kalplerinize ve amellerinize bakar."

18. "Hiç kimse midesinden daha tehlikeli bir kap doldurmamıştır. Oysa insana kendisini ayakta tutacak kadar yemesi yeter. Kişi, yiyeceği zaman midesinin üçte birini yemeğe, üçte birini içmeye, üçte birini de nefes alıp vermeye ayırmalıdır."

Bu hadiste aşağıdakilerden hangisi vurgulanmaktadır?

- A) Yiyeceği paylaşmak
- B) Dengeli beslenmek
- C) Spor yapmak
- D) Az uyumak

19. Aşağıdakilerden hangisi Peygamber Efendimizin sağlık ile ilgili tavsiyelerinden biri değildir?

- A) Kan vermek
- B) Spor yapmak
- C) Tutumlu olmak
- D) Dişleri temizlemek

3. OTURUM

20. "Eli sıkı olma; büsbütün eli açık da olma. Sonra kınanır, (kaybettiklerinin) hasretini çeker durursun." (İsrâ suresi, 29. ayet)

Bu ayette aşağıdakilerden hangisi tavsiye edilmektedir?

- A) Harcamada dengeli olma
B) Duygularda dengeli olma
C) İbadetlerde dengeli olma
D) İlişkilerde dengeli olma

(534) HZ. MUHAMMED'İN HAY. – 4

1. Aşağıdakilerden hangisi Hz. Muhammed (sav.)'in inanç ve ibadet özgürlüğü ile ilgili uygulamalarından biri değildir?

- A) Medine Sözleşmesinde Yahudilerin ve Müminlerin dinlerinde serbest olduğu madde sine yer vermesi
B) Bedir Savaşı esirlerini Müslümanlara okuma yazma öğretmeleri karşılığında serbest bırakması
C) Necranlı Hristiyanlarla yapılan anlaşma ile onların canları, malları ve inançlarını koruma altına alması
D) Kendisini ziyarete gelen Hristiyanlara mescitte ibadet etme izni vermesi

2. Aşağıdaki ayetlerden hangisi inanç ve ibadet özgürlüğü ile ilgili değildir?

- A) "Dinde zorlama yoktur, artık hak ile batıl iyice ayrılmıştır..." (Bakara suresi, 256. ayet)
B) "De ki hakikat Rabb'inizdendir. Artık dileyen inansın, dileyen inkâr etsin..." (Kehf suresi, 29. ayet)
C) "Ey iman edenler! Allah'ın ve Peygamberin önüne geçmeyin. Allah'a karşı gelmekten sakının..." (Hucurât suresi, 1. ayet)
D) "Sen öğüt ver çünkü sen ancak öğüt vericisin. Onların üzerine zorlayıcı değilsin." (Ğâşiye suresi, 21-22. ayetler)

3. İslam dininde düşünme ve ifade özgürlüğü hem bir hak hem de bir sorumluluk olarak görülür.

Buna göre aşağıdakilerden hangisi Müslüman bir kişinin hak ve sorumluluklarından biri değildir?

- A) İstişare etmek
B) İyiliği emretmek
C) Kötülüğe engel olmak
D) Zararlı maddeleri kullanmaya teşvik etmek

4. Aşağıdakilerden hangisi kişinin düşünce ve ifade özgürlüğü kapsamında değerlendirilemez?

- A) Kendisi gibi düşünmeyenlerin fikirlerini anlatmalarına engel olmak
B) Yanlış olduğunu düşündüğü görüşleri eleştirmek
C) Her insanın dini eğitim alma hakkı olduğunu savunmak
D) Dini bir konuda yazı yazmak

5. Aşağıdaki hadislerden hangisi ekonomik haklar ile ilgilidir?

- A) "Allah'a ve ahiret gününe iman eden kimse ya hayır söylesin ya da sussun."
B) "İşler ehil olmayan kimselere verildiği zaman kıyameti bekle."
C) "İşçinin ücretini alın teri kurmadan ödeyiniz."
D) "Bir Müslümanın başka bir Müslümanı korkutması helal değildir."

6. "Bir Müslümanın izinsiz olarak bir başkasının evinin içini gözetlemesi helal değildir. Böyle yapan, günah işlemiş olur."

Bu hadiste aşağıdakilerden hangisi vurgulanmıştır?

- A) Düşünce ve ifade özgürlüğü
B) Özel yaşamın gizliliği
C) Seyahat etme özgürlüğü
D) İnanç ve ibadet özgürlüğü

7. "Sizin en hayırlınız hanımlarına karşı en iyi davrananızdır."

Bu hadiste aşağıdakilerden hangisi vurgulanmıştır?

- A) Kadın erkek eşitliği
B) Kadının ailedeki rolü
C) Aile reisinin görevleri
D) Kadına değer verilmesi

8. Hz. Peygamber yönetimle ilgili bir karar alınırken aşağıdakilerden hangisinin temel ölçüt alınmasını tavsiye etmiştir?

- A) Kur'an-ı Kerim
B) Örf ve adetler
C) Geçmiş uygulamalar
D) Kişinin kendi kararları

9. "Ey insanlar! Doğrusu biz sizi bir erkekle bir dişiden yarattık. Ve birbirinizle tanışmanız için sizi kavimlere ve kabilelere ayırdık. Allah katında en değerli olanınız, Allah'a karşı gelmekten en çok sakınanınızdır..." (Hucurât suresi, 13. ayet)

Bu ayetten aşağıdakilerden hangisi çıkarılamaz?

- A) Kullukta insanların eşit olduğu
B) Kadın ve erkeğin yaratılıştaki eşit olduğu
C) İnsanın yaratılanların en şerefli olduğu
D) Allah katında üstünlüğün takvaya bağlı olduğu

10. Aşağıdakilerden hangisi Peygamberimizin davranışlarından biri değildir?

- A) Eşinin güzel huylarını dile getirir ve onu takdir ederdi.
B) İnsanların hatalarını toplum içerisinde yüzlerine vururdu.
C) Aile fertlerine karşı güler yüzlü, samimi ve adaletli davranırdı.
D) Önce insanların kalplerini kazanır sonra hatalarını düzeltmeye çalışırdı.

3. OTURUM

11. "Müminlerin iman bakımından en mükemmel olanı, ahlak bakımından en güzel olanıdır. Onların en hayırlıları da aile fertlerine karşı en hayırlı davranandır."

Bu hadisten aşağıdakilerden hangisi çıkarılamaz?

- A) Aile fertlerine iyi davranılması gerektiği
- B) Hayırlı işlerde acele edilmesi gerektiği
- C) İman ile ahlak arasında yakın bir ilişki olduğu
- D) Güzel ahlak sahibinin Allah katında da değerli olduğu

12. **Aşağıdaki ayet ve hadislerden hangisi kadın ve erkeğin eşit olduğu konulara örnek oluşturmaz?**

- A) "Kadın ve erkek bir bütünü tamamlayan iki eşit parçadır." (Hadis)
- B) "İlim öğrenmek her Müslüman kadın ve erkeğe fazdır." (Hadis)
- C) "Mümin olarak erkek veya kadın, her kim salih ameller işlerse işte onlar cennete girerler..." (Nisa suresi, 124. ayet)
- D) Hiçbir Mümin hanımına kin beslemesin. Onun bir huyundan hoşlanmazsa belki başka bir huyundan hoşlanır." (Hadis)

13. **Aşağıdakilerden hangisi Hz. Peygamber'in tavsiyelerinden biri değildir?**

- A) Erkek çocukları kız çocuklarından daha üstün tutulmalıdır.
- B) Eşler birbirlerine karşı sorumluluklarını yerine getirmelidir.
- C) İnsanlar istekleri dışında evliliğe zorlanmamalıdır.
- D) Akrabalık ilişkilerinin geliştirilmesine önem verilmelidir.

14. I. Kadının rolü sadece annelik yapmaktır.
II. Kadınlara hoşgörülü ve anlayışlı davranmak tavsiye edilmiştir.
III. Kadınların namazlarını camide cemaatle kılması yasaklanmıştır.
IV. Temel hak ve özgürlüklerde kadın ve erkek eşittir.

İslam'a göre bu ifadelerden hangileri doğrudur?

- A) I ve II.
- B) I ve III.
- C) II ve IV.
- D) III ve IV.

15. **Aşağıdakilerden hangisi bir yöneticiden beklenen davranışlardan biri değildir?**

- A) Adil davranmak
- B) Hak ve özgürlüklere saygılı olmak
- C) Huzur ve ahlakı bozacak davranışlardan kaçınmak
- D) Yetki ve sorumluluklarını kendi çıkarları için kullanmak

16. **Aşağıdakilerden hangisi Hz. Peygamber'in sünnetine uygun bir davranıştır?**

- A) Kadınlara mirastan pay vermemek
- B) Kadınları eğitimden mahrum bırakmak
- C) İstişarede kadınların görüşüne başvurmak
- D) Kadınları istemedikleri bir meslekte çalışmaya zorlamak

17. "O müminler öyle kimselerdir ki eğer kendilerine yeryüzünde bir iktidar verirsek namazı dosdoğru kılarlar, zekâtı verirler, marufu (iyi ve güzel olan şeyleri) emrederler, münkerden (kötü ve çirkin olan şeylerden) vazgeçirmeye çalışırlar..." (Hac suresi, 41. ayet)

Bu ayete göre aşağıdakilerden hangisi iyi bir yöneticide bulunması gereken özelliklerden biri değildir?

- A) İyiliğe teşvik etmek
- B) İbadetlerini yerine getirmek
- C) Kötülüğü engellemeye çalışmak
- D) Her konuda kendisini yeterli görmek

18. Hz. Muhammed (sav.) bir yönetici olarak zamanını Rabb'i, devleti ve özel hayatı için üçe ayırdı. Devlet işlerinin çok yoğun olduğu durumlarda özel hayatından fedakârlık eder ancak ibadetlerini asla ihmal etmezdi.

Bu metinden yöneticiler ile ilgili aşağıdakilerden hangisi çıkarılabılır?

- A) İbadetlerini hiçbir zaman aksatmamaları
- B) Zamanının çoğunu devlet işlerine ayırmaları
- C) Özel hayatını devlet işlerinden önde tutmaları
- D) Devlet işlerini ibadetlerinden daha fazla önemsemeleri

19. **Aşağıdakilerden hangisi Peygamber Efendimizin yönetim ilkelerinden biri değildir?**

- A) İstişare etme
- B) Din birliğini sağlama
- C) Ehliyet ve liyakate öncelik verme
- D) Halkın yönetime katılımını sağlama

20. Bir defasında Peygamber Efendimiz Hz. Ali'ye şöyle dedi: "Sana iki kişi muhakeme olmak için geldiğinde hiçbir zaman ikisini de dinlemeden karar verme. Çünkü doğruyu bulmak her ikisini de dinlediğinde mümkündür."

Bu metinde aşağıdakilerden hangisi vurgulanmıştır?

- A) Adaletli olmak
- B) İstişare etmek
- C) Liyakate önem vermek
- D) Birlik ve beraberliği sağlamak

(608) DEM. VE İNSAN HAK. – 2

1. **Aşağıdakilerden hangisi insan haklarının özelliklerinden değildir?**

- A) Vazgeçilebilir olması
- B) Doğuştan kazanılması
- C) Dokunulmaz olması
- D) Devredilemez olması

2. **T.C. Anayasası'nda yer alan "Herkes yaşama, maddi ve manevi varlığını koruma ve geliştirme hakkına sahiptir." ifadesiyle hangi hak anayasal güvenceye kavuşturulmuştur?**

- A) Sağlık hakkı
- B) Eğitim hakkı
- C) Dilekçe hakkı
- D) Yaşama hakkı

3. **Normlar hiyerarşisine göre "kanunlar" kaynağını, dayandığı ilkeleri aşağıdakilerden hangisinden alır?**

- A) Tüzüklerden
- B) Genelgelerden
- C) Anayasadan
- D) Yönetmeliklerden

3. OTURUM

4. Devletin varlığı için zorunlu olan, ortak bir amaçla bir araya gelmiş, belli bir yerde yaşayan insanları ifade eden kavram aşağıdakilerden hangisidir?
- A) Ülke B) Halk
C) Egemenlik D) Eşitlik
5. Aşağıdakilerden hangisi hukuk devleti olmanın öncelikli gereklerindendir?
- A) Demokratik rejim
B) Sosyal güvenlik
C) Gelir adaleti
D) Ekonomik büyüme ve kalkınma
6. Ülkemizde kanunların Anayasa'ya uygunluğunu denetleyen yüksek mahkeme aşağıdakilerden hangisidir?
- A) TBMM İnsan Hakları İnceleme Komisyonu
B) Anayasa Mahkemesi
C) Yargıtay
D) Sayıştay
7. "Demokrasi" kavramının sözcük anlamı aşağıdakilerden hangisinde verilmiştir?
- A) İktisat B) Ayrıcalık
C) Azınlık D) Halk iktidarı
8. Aşağıdaki kişilerden hangisi genel seçimlerde oy kullanamaz?
- A) Askeri öğrenciler
B) Cumhurbaşkanı
C) Ev kadınları
D) Öğretmenler
9. Aşağıdakilerden hangisi "hukukun üstünlüğü" ilkesiyle bağdaşmaz?
- A) Temel hak ve özgürlüklerin anayasal güvenceye kavuşturulması
B) Yasaların yasama, yürütme ve yargı organlarını bağlaması
C) Yargının yürütmeye bağlanması
D) Kişilerin hukuk önünde eşit olmaları
10. Aşağıdakilerden hangisi çoğulcu demokrasinin gereklerindendir?
- A) Hiç kimseyi başkası gibi düşünmeye zorlamaması
B) Bireylerin sivil toplum örgütlerine katılımlarının engellenmesi
C) Toplumda sadece çoğunluğun istek ve beklentilerinin dikkate alınması
D) Tek tip toplum oluşturma gayreti içinde olunması
11. Batılı devletlerin baskı ve dayatmalarıyla 1856'da kabul edilen, gayrimüslimlerle Müslümanlar arasında belli konularda farklılığı ortadan kaldıran uygulama aşağıdakilerden hangisinin sonucunda gerçekleşmiştir?
- A) Sened-i İttifak
B) Islahat Fermanı
C) Nizam-ı Cedit
D) Birinci Meşrutiyet
12. Aşağıdakilerden hangisi 1921 Anayasasının özelliklerindendir?
- A) İnsan haklarına saygılı devlet anlayışını benimsemesi
B) İnsan haklarına dayalı devlet anlayışını benimsemesi
C) Güçler birliği ilkesine dayanması
D) Hak ve özgürlüklere yer verilmesi
13. İnsan hakları eğitimi almış kişilerden aşağıdaki davranışlardan hangisi beklenmez?
- A) Çevreyi koruması
B) Yasalara uygun davranması
C) Hak ihlallerinde demokratik çözüm yollarına başvurması
D) Kamu hizmetlerinin yerine getirilmesinde ayrıcalık yapması
14. Birleşmiş Milletler örgütü hangi yıl kurulmuştur?
- A) 1938 B) 1945
C) 1950 D) 1957
15. Çevre kirliliğinin önlenmesi için dünyada faaliyet gösteren uluslararası sivil toplum kuruluşu hangisidir?
- A) Uluslararası Af Örgütü
B) Türk Demokrasi Vakfı
C) Green Peace Örgütü
D) Uluslararası PEN Kulübü
16. Aşağıdakilerden hangisi, insan haklarının korunmasına engel oluşturur?
- A) Hızlı toplumsal değişmelerin olumsuz etkilerinin önlenmesi
B) Bilim alanındaki gelişmelerin kontrollü kullanımı
C) Bölgeler arası kalkınmışlık farklarının giderilmesi
D) Uluslararası terörün artması
17. Bir toplumda toplumsal yapının bütününe dokunmaksızın eskiyen, güncelliğini kaybeden, toplumun ihtiyaçlarına cevap veremeyen kurum ve kuralların düzeltilmesine ve iyileştirilmesine ne ad verilir?
- A) Reform
B) İnkılap
C) Geleneksellik
D) Pozitivizm
18. Fransız düşünür O. Comte'a göre insanlar, pozitif evrede olayları ve doğayı aşağıdakilerden hangisiyle anlamaya çalışmışlardır?
- A) Dini inançlarla
B) Gerçek üstü olgularla
C) Akıl ve deneyle
D) Toplumdaki yanlış değer yargılarıyla
19. Aşağıdakilerden hangisi cumhuriyet yönetiminin özelliklerinden değildir?
- A) Egemenliğin halka ait olması
B) İnsan haklarına önem vermesi
C) Özgür düşünceye önem verilmesi
D) Toplumda sınıf ayrıcalıklarının teşvik edilmesi
20. Yanlış bilinenleri yıkıp yeniden inşa eden Yunus Emre'nin zihinde ve gönüllerde yaptığı yenilik aşağıdaki ilkelerden hangisine karşılık gelir?
- A) Milliyetçilik B) İnkılapçılık
C) Halkçılık D) Devletçilik

3. OTURUM

(613) SEÇ. DİL VE ANLA. – 3

1. 9. sınıf öğrencisi Ufuk'un okul kapsamında gördüğü duyuruda şunlar yazmaktadır:
"Okulumuz Kültür ve Edebiyat Kulübü'nün düzenlediği şiir dinletisine tüm idareci, öğretmen ve öğrenciler davetlidir."
Bu iletişim örneğinde aşağıdaki öğelerden hangisi yoktur?

- A) Gönderici
B) Alıcı
C) Dönüt
D) İleti (mesaj)

2. - Eyvah! Otobüsü kaçırdım.
- Çocuklar, sınıfın pencerelerini kapatınız!
- Arkadaşlar, herkes adresi iyice öğrendi mi?
Bu cümleler dilin aşağıdaki işlevlerinden hangisini örneklemir?

- A) Kanalı kontrol işlevi
B) Göndergesel işlev
C) Alıcıyı harekete geçirme işlevi
D) Heyecana bağlı işlev

3. 10. sınıf öğrencisi Tülin, ödev olarak sunum hazırlayacaktır. Tülin ödevini hazırlamış; sunum öncesinde, sırasında ve sonrasında şu noktalara dikkat etmiştir:
I. Tüm öğrencilerin ilgisini çekebilecek güncel bir konu seçmiştir.
II. Görsellere fazla yer ayırmak için yazı boyutunu mümkün olduğunca küçültmüştür.
III. Sunumu çok fazla uzatmayarak 20 dakikada bitirmiştir.
IV. Sunumdan sonra arkadaşlarının kendisine soru sormasına imkân tanımıştır.
Tülin'in yukarıda numaralanmış uygulamalarından hangisi sunum teknikleri açısından yanlıştır?

- A) I. B) II. C) III. D) IV.

4. Aşağıdakilerden hangisi sunumda görsel malzeme kullanılması-
nın amaçlarından biri değildir?

- A) Bilgilerin daha kolay bir şekilde ezberlenmesini sağlar.
B) Dinleyicilerin bilgileri algılamasını kolaylaştırır.
C) Fikirleri, kavramları anlatırken zaman kazandırır.
D) Fikirlerin sağlam bir zemine oturtulmasını sağlar.

5. I. Yeri geldiğinde tartışmaya müdahale ederek tarafını belli eder.
II. Her bir konuşmacıya eşit konuşma süresi verir.
III. Tartışmanın havasının dağılması için konu dışı tartışmaları teşvik eder.
IV. Tartışma kurallarına uymayanları uygun bir şekilde uyarır.
Yukarıda numaralanmış cümlelerin hangilerinde tartışma başkanının görevleriyle ilgili yanlış bilgi verilmiştir?

- A) I ve II. B) I ve III.
C) II ve III. D) III ve IV.

6. Aşağıdakilerden hangisi tartışma yönteminin aşamalarından biri değildir?

- A) Tartışma konusunun seçimi
B) Tartışmayı yönlendirecek soruların seçimi
C) Araç ve tekniklerin belirlenmesi
D) Katılımcılara soru soracak dinleyicilerin seçimi

7. I. ---- bir tek toplantı ya da tartışma değil, bir toplantılar ve tartışmalar dizisidir.
II. ---- karşıt görüşlerin bir hakem heyeti huzurunda tartışılmasıdır.
III. ---- toplumu ilgilendiren bir konunun, uzmanları tarafından sohbet havası içinde tartışılmasıdır.
Numaralanmış cümlelerdeki boşluklara sırasıyla aşağıdakilerden hangileri getirilmelidir?

- A) Münazara - Konferans - Sunum
B) Açık oturum - Sempozyum - Münazara
C) Konferans - Forum - Sempozyum
D) Sempozyum - Münazara - Panel

8. Pannelle ilgili aşağıdaki bilgilerden hangisi doğrudur?

- A) Konuşmaları yöneten bir başkan bulunmaz.
B) Amaç bir karara varmak, kesin sonuçlara ulaşmaktır.
C) Konuşmacı sayısı 3 ila 6 arasında değişir.
D) Sonunda dinleyicilerden soru alınmaz.

9. Aşağıdakilerden hangisi tartışma türlerinden değildir?

- A) Panel
B) Münazara
C) Mülakat
D) Sempozyum

10. Anlatıma hazırlık aşamasında aşağıdakilerden hangisi en az fayda sağlar?

- A) Ezber yapmak
B) Not almak
C) Alıntı yapmak
D) Özet çıkarmak

11. Aşağıdakilerin hangisinde konu daha az sınırlandırılmıştır?

- A) Türk edebiyatında anne sevgisi
B) Sevgi
C) Anne sevgisi
D) Dünya edebiyatında anne sevgisi

12. Orhan, tramvayların sesini duyuyordu. Bu hâlde Necati'nin evine kadar gitmeye muktedir olup olmayacağını düşündü. Onu mektebe gitmeden evvel bulmak istediği için geç kalmaktan korkuyordu. Fakat buradan nasıl çıkacaktı? Felaketin tekrarı etmesi ihtimali onu dehşete düşürüyordu.
Bu parçanın anlatım biçimi aşağıdakilerden hangisidir?

- A) Açıklama
B) Betimleme
C) Tartışma
D) Öyküleme

3. OTURUM

13. Ötüşen kuşların, meleşen kuzuların, şırıldayan derelerin insana vereceği huzuru tadabilmek için yola çıktık. Ağaçların arasındaki kıvrımlı yollardan ilerleyerek geç saatlerde bir dağ köyüne ulaştık. Gözlerimiz bize yardımcı olacak birini aradı ancak etrafta kimse görünmüyordu. Arkadaşım, "Bu saatte yola çıkmayacaktık!" diye çıktı. Çaresiz başka bir diyara doğru oradan uzaklaştık.
**Bu parçanın anlatımı için aşağıdakilerden hangisi söylene-
mez?**

- A) Doğrudan anlatım cümlesi vardır.
B) Üçüncü kişi anlatımı kullanılmıştır.
C) Somut anlatım bildiren cümleler vardır.
D) Hem öznel hem nesnel yargılı cümleler kullanılmıştır.

14. - Anlatımda anlamı bilinmeyen sözcüklere yer vermemek
- Anlatımda fazla sözcük bulundurmak, yeteri kadar sözcük kullanmak
- Kişinin anlattıklarının birbiriyle çelişmemesi, söyledikleriyle ters düşmemesi
Bu ifadelerle aşağıdaki kavramlar eşleştirildiğinde hangi kavram dışta kalır?

- A) Tutarlılık B) Açıklık
C) Akıcılık D) Duruluk

15. **Aşağıdaki cümlelerin hangisinde yanlış anlamda sözcük kullanımından kaynaklanan bir anlatım bozukluğu vardır?**

- A) Çoban, sürüyü akşam güneşiyle birlikte köye doğru sürmeye başladı.
B) Gençlere dil şuurunu kazandırılması için farklı çalışmalar yapılmalıdır.
C) Bu kentin insana ferahlık veren bir havası vardı.
D) Çorap dokuyarak geçimini sağlamaya çalışıyordu.

16. İstanbul'u dinliyorum, gözlerim kapalı
Başında eski âlemlerin sarhoşluğu,
I
Loş kayıkhaneleriyle bir yalı;
II
Dinmiş İodosların uğultusu içinde
III
İstanbul'u dinliyorum,
gözlerim kapalı
IV
Bu dizelerde numaralanmış sözlerin hangisi alışılmamış bağdaştırmaya örnektir?

- A) I. B) II. C) III. D) IV.

17. I. Bilgi verme amacı vardır.
II. Olay, kişi, zaman, mekân öğelerine yer verilir.
III. Olaylar sadece birinci kişili anlatımla aktarılır.
IV. Roman, öykü, masal gibi türlerde bu anlatım kullanılır.
Numaralanmış cümlelerin hangilerinde öyküleyici anlatımla ilgili bilgi yanlışı vardır?

- A) I ve II. B) I ve III.
C) II ve III. D) III ve IV.

18. Yola çıkmalı ne kadar olmuştu? Günler geçti, geceler geçti; derken yine günler geçti. Atreju ne kadar zamandır yolda olduklarını bilmiyordu. Ejderha, uykusunda da uçabiliyordu; hep böyle gidiyor, gidiyordu ve Atreju da ejderhanın beyaz yelesine sımsıkı sarılmış durumda ara sıra kestiriyordu.
Bu parçanın anlatım türü aşağıdakilerden hangisidir?

- A) Betimleyici anlatım
B) Kanıtlayıcı anlatım
C) Düşsel (fantastik) anlatım
D) Emredici anlatım

19. Edebiyat Öğretmeni Ömer Bey, öğrencilerinden köylerinin veya yaşadıkları çevrenin tarihî ve doğal güzelliklerini anlatan bir kompozisyon yazmalarını istemiştir.
Buna göre öğrencilerin yazacakları kompozisyona en uygun anlatım türü aşağıdakilerden hangisi olur?

- A) Düşsel
B) Betimleyici
C) Tartışmacı
D) Söyleşmeye bağlı

20. Şiir dediğimiz türün temel özelliği, kendisini var eden parçalara ayırmayıdır. Bir hikâyenin, bir romanın ilettiği haber bir başka biçimde de ortaya konabilir. Bu yüzden de bir hikâye, bir roman zaman zaman özetlenebilir, bölümlere ayrılabilir. En azından, metni hep göz önünde tutmaksızın hakkında konuşulabilir. Oysa şiirde özgün bir mantık vardır ve bir bütün olarak değerlendirilebilir. Başka bir biçim içinde varlığını sürdüremez, başka kelimelerin bileşimine tercüme edilemez.
Bu parçada anlatılmak istenen aşağıdakilerden hangisidir?

- A) Şiir hiçbir türe sığdıramayan, değiştirilemeyen kendine has anlatım şekli olan bir türdür.
B) Roman, öykü, masal gibi türlerin ifade zenginliği olarak şiirden üstün olduğu söylenebilir.
C) Şairlerin oluşturduğu dünyanın gerçeğin ta kendisi olmasını beklemek haksızlıktır.
D) Son yıllarda edebî türler birbirinin sınırlarını sıkça ihlal etmektedir.

3. OTURUM

(615) SEÇ. DİL VE ANLA. – 5

1. Aşağıdaki parçalardan hangisi öğretici bir metinden alınmış olamaz?

- A) Her zaman elimizin altında bulunan Türkçe Sözlük'te madde başı olarak verilen sözler ile bunların anlamlarına dair açıklamaların daha iyi anlaşılabilmesi amacıyla yazarlarımızdan, şairlerimizden seçilen örnek cümlelerin aktarılması eskiden beri benimsenmiş bir yoldur.
- B) Ben hece şiirini, modern şiirimizin başlangıcı olduğu noktadan itibaren severim. Herhangi bir ölçüyü bilmem. Tekrarlar birçok şiirimde göze çarpar ve şiire devinim kazandırmak, bir etkiyi güçlendirmek amacını taşır.
- C) Cüneyt Hoca, edebiyat okumalarıyla kültürümüzün, dilimizin, medeniyetimizin yıldız şehri İstanbul'un edebiyata; edebiyatçının da bu şehir bağlamında insanlığa kattıklarını irdeleyeceğini belirterek başladı sözlerine.
- D) Yutkundü, tekrar bir şeyler demeye niyetlendi ama yine diyemedi; öylece kaldı, kararsız. Sonra aniden arkasını döndü, Arnavut taşı döşeli sokakta yavaş adımlarla ilerlemeye başladı. Lambaların sokağa düşen ışıklarına basa basa...

2. Müştak Bey: Nedir bu?

Ziba Dudu: İşte sana ömür boyu can yoldaşı olacak olan sevgili karın Sakine Hanım.

Müştak Bey: O bana can yoldaşı olacağına benim canım çıksa daha canıma minnet.

Ziba Dudu: (Habbe Kadın'a)

Damat Bey sayıklamaya başladı. Galiba sevincinden aklını kaybetti.

Bu metin için aşağıdaki sınıflandırmalardan hangisi doğrudur?

- A) Gazete Çevresinde Oluşan Öğretici Metin – Deneme
B) Göstermeye Bağlı Edebî Metin – Tiyatro
C) Kişisel Hayatı Ele Alan Öğretici Metin – Günlük
D) Anlatmaya Bağlı Edebî Metin – Roman

3. Aşağıdakilerin hangisinde öğretici metinlerle ilgili bir bilgi yanlış vardır?

- A) Gerçeklikten çok kurmaca bir dünya ele alınır.
B) Açık ve anlaşılır bir dil kullanılır.
C) Sözcükler genellikle gerçek anlamıyla kullanılır.
D) Dil, göndergesel işlevde kullanılır.

4. Türk Dil Kurumuna 05.09.2015

Kurumunuz tarafından yayımlanan ve aşağıda isimleri yazılı eserleri, verilen adrese göndermenizi rica ederim.

Saygılarımla İmza
Sezgin HAYIR

Tekirdağ Lisesi

Tekirdağ

Yazım Kılavuzu: 50 adet

Türkçe Sözlük: 60 adet

Bu mektubun türü aşağıdakilerden hangisidir?

- A) Edebî Mektup
B) Resmî Mektup
C) Açık Mektup
D) İş Mektubu

5. I. Gerçeklerin yanında hayallere de yer verilir.

II. Sanatlı, süslü bir dille yazılmıştır.

III. Anlatımda duygulara yer verilmemeli, tarafsız olunmalıdır.

Biyografi türü ile ilgili verilen numaralanmış bilgiler doğru(D)-yanlış(Y) olarak değerlendirildiğinde sıralama aşağıdakilerin hangisi olur?

	I	II	III
A)	D	D	Y
B)	Y	D	Y
C)	Y	Y	D
D)	D	Y	Y

6. 1975 senesiydi. İlkokul ikiye gidiyordum. O yıl Çocuk Bayramı için törenlerde bana şiir okuma görevi vermişti öğretmenim. Bana çok güvendiğini bu işi kolaylıkla yapacağımı da eklemeyi unutmamıştı. Çok güzel hazırlanmışım, şiiri kelimesi kelimesine ezberlemiştim. Tören günü sahneye çıktığımda şiirin bir dizesi bile aklımda kalmamıştı. Ağlaya ağlaya sahneden kaçışımı hiç unutmuyorum.

Bu parça aşağıdaki metin türlerinin hangisine örnektir?

- A) Anı B) Günlük
C) Mektup D) Deneme

7. Amerikan Havacılık ve Uzay Dairesi (NASA) tarafından yapılan araştırmalara göre Kuzey Kutbu'ndaki buzullar, eskisinden daha hızlı eriyor. NASA'nın 2004 ve 2005 uydu verilerine göre Kuzey Kutbu'nun tüm yıl boyunca kalan daimi buzulları yüzde 14 oranında azaldı. NASA uzmanları, bunun Türkiye'nin yüzölçümü kadar bir buzul kütlelerinin Kuzey Kutbu'nda erimesi anlamına geldiğini belirtiyorlar.

Bu parça aşağıdaki metin türlerinin hangisinden alınmıştır?

- A) Söyleşi B) Haber Yazısı
C) Gezi Yazısı D) Biyografi

8. Dünya edebiyatında deneme türünün ilk örneklerini - - - - vermiştir.

Bu parçada boş bırakılan yere aşağıdakilerden hangisi getirilmelidir?

- A) Bacon B) Moliere
C) Alain D) Montaigne

9. I. Kişisel ve özeldir.

II. Nesnellik hâkimdir.

III. Ciddi bir üslup kullanılır.

IV. Yazıldığı günün tarihi atılır.

Yukarıda numaralanmış özelliklerden hangileri günlük türü için söylenemez?

- A) I ve II. B) II ve III.
C) II ve IV. D) III ve IV.

3. OTURUM

10. Aşağıdakilerden hangisi otobiyografi için doğru bir bilgi değildir?

- A) Daha çok açıklayıcı ve öyküleyici anlatım türleri kullanılır.
- B) Birinci kişili anlatımdan yararlanır.
- C) Anlatımda nesnel bakış açısı hâkimdir.
- D) Tanınmış kişilerin otobiyografileri tarihe ışık tutar.

11. Gezi yazılarının eski adı aşağıdakilerin hangisidir?

- A) Ruzname
- B) Siyer
- C) Tercümeihâl
- D) Seyahatname

12. Yazar hikâye türündeki bu eserinde insan hayatında göz ardı edilen incelikleri, yerli ve asil duruşu, kadın duyarlığında kolayca fark edilmeyen kırılğan dokuları etkili bir dille anlatmış ve Türkçenin anlatı imkânlarına yeni kapılar aralamıştır.

Bu parça aşağıdaki metin türlerinin hangisinden alınmıştır?

- A) Günlük
- B) Eleştiri
- C) Sohbet
- D) Gezi yazısı

13. • Bilgi vermek, bir düşünceyi ispatlamak için yazılan yazılardır.
• Gazete ve dergilerde yayımlanır.
• Dil sade, açık ve anlaşılırdır.
Bu özellikler aşağıdaki metin türlerinden hangisine aittir?

- A) Makale
- B) Deneme
- C) Sohbet
- D) Gezi yazısı

14. Yazar ve mütercim. 12 Aralık 1917'de Hatay Reyhanlı'da doğdu. Hatay Lisesini bitirdi. İstanbul Üniversitesi Edebiyat Fakültesi Felsefe Bölümü'ne girdi. Öğrenimini tamamlayamadan Hatay'a döndü. Bir süre ilkökul öğretmenliği ve nahiye müdürlüğü, Tercüme Kalemî'nde reis muavinliği yaptı. İstanbul Üniversitesi Fransız Dili ve Edebiyatı Bölümü'nü bitirdi.

Bu parça aşağıdaki metin türlerinin hangisinden alınmıştır?

- A) Otobiyografi
- B) Deneme
- C) Biyografi
- D) Günlük

15. • Şevket Rado – Eşref Saat
• Nurullah Ataç – Karalama Defteri
• Suut Kemal Yetkin – Edebiyat Söyleşileri
Yazarıyla verilen bu eserler aşağıdaki metin türlerinden hangisine örnektir?

- A) Mektup
- B) Makale
- C) Fıkra
- D) Sohbet

16. Aşağıdakilerin hangisi "fıkra" türü için söylenemez?

- A) Yazar, yazılarında ispat kaygısı taşır.
- B) Samimi, senli benli bir üslubu vardır.
- C) Giriş, gelişme ve sonuç bölümlerinden oluşur.
- D) Güncel, siyasal, toplumsal yazılardır.

17. Kişilerin iş başvurularında kullandıkları özgeçmişler aşağıdaki türlerin hangisine benzerlik göstermektedir?

- A) Günlük
- B) Biyografi
- C) Otobiyografi
- D) Makale

18. 30 Ocak Ankara Saat sekizde kalktım. Her günkü uyanışımın iki üç saat geç. Kırk yılda bir böyle uyanırım. Aynı çorapları giydim. Bugün evdeyim. Saat 09.00: Koca evde yalnızım ve yazacak hiçbir şeyim yok. Saat 09.30: Nefti kadife pantolonumu, botlarımı giydim. Tıraş oldum.

Bu parça aşağıdaki türlerin hangisinden alınmıştır?

- A) Biyografi
- B) Mektup
- C) Günlük
- D) Gezi yazısı

19. Aşağıdakilerden hangisi öğretici metinlerden değildir?

- A) Tarihî metinler
- B) Göstermeye bağlı metinler
- C) Felsefi metinler
- D) Bilimsel metinler

20. Edebiyatımızın en ünlü gezi yazılarından biri de Evliya Çelebi tarafından kaleme alınan - - - - .
Bu cümlede boş bırakılan yere aşağıdakilerden hangisi getirilmelidir?

- A) Paris Sefaretnamesi'dir.
- B) Babürname'dir.
- C) Mecalis'ün Nefais'tir.
- D) Seyahatname'dir.

(616) SEÇ. DİL VE ANLA. – 6

1. Röportajla ilgili aşağıdakilerin hangisi doğrudur?

- A) Röportajı yapan kişi, elde ettiği bilgilere kendi görüş ve düşüncelerini katmaz.
- B) Röportajlarda derinlemesine inceleme ve araştırma yapılmasına gerek yoktur.
- C) Röportajlarda fotoğraf, belge vs. kullanılmaz.
- D) Röportajlarda; öğretici, açıklayıcı, kanıtlayıcı, betimleyici vb. anlatım türlerinden yararlanılır.

2. Bir insanı konu alan röportaj aşağıdaki türlerden hangisi ile benzerlik gösterir?

- A) Gezi yazısı
- B) Biyografi
- C) Nutuk
- D) Sohbet

3. Aşağıdakilerden hangisi konularına göre röportaj türleri arasında yer almaz?

- A) Bir kuruluşu konu alan röportaj
- B) Bir insanı konu alan röportaj
- C) Bir eşyayı konu alan röportaj
- D) Bir yeri konu alan röportaj

4. Aşağıdakilerden hangisi röportajın özellikleri arasında yer almaz?

- A) Hem gezi yazılarının hem makalenin özelliklerini taşır.
- B) Ele alınan konu ses kayıtları, belge ve fotoğraflarla tamamlanır.
- C) Röportajda ele alınan konuda yazarın gördükleri ve duyduklarıyla yetinilir.
- D) Röportajlar, okuyucunun dikkatini çekecek ve onları bazı konularda düşündürecek şekilde düzenlenir.

3. OTURUM

5. Mahkemelerde savcı ve avukatların yargılama sırasında savunmak ya da suçlamak amacıyla söyledikleri sözler - - - -
Bu cümlede boş bırakılan yere aşağıdakilerin hangisi getirilmelidir?

- A) hukuksal söylevidir.
- B) askerî söylevidir.
- C) siyasi söylevidir.
- D) dinsel söylevidir.

6. Aşağıdakilerden hangisi tanınmış söylevcilerden değildir?

- A) Mustafa Kemal Atatürk
- B) Ömer Seyfettin
- C) Hamdullah Suphi Tanrıöver
- D) Ömer Naci

7. Aşağıdaki özelliklerden hangisi söylevin amacını ortaya koymaktadır?

- A) Söylev, tiyatro ile gelişmiştir ve her yazı türü yeri geldikçe söylevden yararlanır.
- B) Söylevde dilin alıcısı harekete geçirme ve heyecana bağlı işlevi birlikte kullanılır.
- C) Söylev, toplulukları duygulandırma, coşturma ve belli bir düşünceden yana çekme nitelikleri taşır.
- D) Söylevcinin konuştuğu konuyu çeşitli yönleri ile bilmesi ve söyleyeceklerine inanması gerekir.

8. İlkokulda iken Namık Kemal'in Tevfik Fikret'in, Mehmet Emin'in şiirlerini okumayı pek severdim. Fransız mektebine geçtiğimde durmamacasına roman okumak sevdiğime tutuldum. Yine o tarihlerde Diyarbakır'daki kız kardeşime uzun manzum mektuplar yazdığımı hatırlıyorum. Fakat bende edebiyata ve bilhassa şiire karşı hakiki ve köklü denebilecek ilk alaka Galatasaray Lisesi onuncu sınıfta sıra arkadaşım Ziya Osman Saba'nın delaletiyle tanıdığım Baudelaire ile başlar. Bu dev Fransız şairini içime sindire sindire okuduktan sonradır ki, şiir yazmak benim için teneffüs etmek, yemek içmek gibi tabii bir hayat faaliyeti oldu.
Bir mülakattan alınan bu parça aşağıdaki sorulardan hangisine cevap niteliğindedir?

- A) Edebiyata karşı ilginiz ne zaman ve nasıl başladı?
- B) Gençliğinizdeki edebî ortam nasıldı?
- C) İlk şiirlerinizde hangi temaları işlediniz?
- D) Çocukluğunuz nasıl geçti?

9. Aşağıdakilerden hangisi mülakatın özelliklerinden değildir?

- A) Mülakat ünlü kişilerle ve konunun uzmanı olan kişilerle yapılır.
- B) Mülakata başlamadan önce görüşülen yer ve kişi tanıtılabilir.
- C) Mülakat soruları herkesin anlayabileceği şekilde açık ve net sorulardır.
- D) Sorulara verilen cevaplar mülakatı yapan kişinin uygun gördüğü şekilde düzenlenir.

10. Aşağıdaki sanatçıların hangisinin röportaj türünde eseri yoktur?

- A) Hikmet Feridun Es
- B) Yaşar Kemal
- C) Namık Kemal
- D) Fikret Otyam

11. Bir topluluğun önünde belli bir fikri, bir duyguyu aşılama için söylenen etkili ve inandırıcı konuşmalara - - - - denir.
Bu cümledeki boşluğa aşağıdakilerin hangisi getirilemez?

- A) hatip
- B) hitabet
- C) söylev
- D) nutuk

12. Tarihî yapılara ve doğal güzelliklere sahip bir ilçe baraj yapımı projesiyle yeniden gündeme gelmiş ve o bölgenin tarihî ve doğal güzelliklerinin anlatıldığı, bölge halkının görüş ve düşüncelerinin yer aldığı yazılar yazılmıştır.
Bu parçada söz edilen yazılar aşağıdakilerden hangisine örnektir?

- A) Bir yeri konu alan röportaj
- B) Bir insanı konu alan röportaj
- C) Bir eşyayı konu alan röportaj
- D) Mülakat

13. Aşağıdakilerden hangisi bir söylevcinin söylev sırasında dikkat etmesi gereken özelliklerden değildir?

- A) Söylevci vurgu ve tonlamaya dikkat etmelidir.
- B) Söylevci gereksiz vurgular, abartılı sözler ve aşırı ses yükseltmelerinden kaçınmalıdır.
- C) Söylevci konuşmasını jest ve mimiklerle desteklemelidir.
- D) Söylevci konuştuğu konuyu iyi araştırmalı, konuyu her yönüyle ortaya koymalıdır.

14. İbadethanelerde dinin esaslarını açıklayan, bireysel ve toplumsal sorunları dinsel açıdan yorumlayan söylev türü aşağıdakilerin hangisidir?

- A) İktisadi söylev
- B) Akademik söylev
- C) Dinî söylev
- D) Siyasi söylev

15. Edebiyatımızda ilk mülakat örneği sayılan eser ve yazarı aşağıdakilerin hangisidir?

- A) Nurullah Berk – Ustalarla Konuşmalar
- B) Ruşen Eşref Ünaydın – Diyorlar ki
- C) Yaşar Nabi Nayır – Edebiyatçılarımız Konuşuyor
- D) Mustafa Baydar – Edebiyatçılarımız Ne Diyor

3. OTURUM

16. Müslümanlar, Türkler!
Türk ve Müslüman bugün en karanlık gününü yaşıyor. Gece, karanlık bir gece. Fakat insanın hayatında sabah olmayan gece yoktur. Yarın, bu korkunç geceyi yırtıp şaşaalı bir sabah yaratacağız. Yalnız ışık geldiği vakit hayatı karşılayacak, karşılayabilecek insanlar hâlinde bulunalım.
Bu metnin türü aşağıdakilerden hangisidir?

- A) Mülakat B) Röportaj
C) Söylev D) Sohbet

17. Ülkemizde toplanma ve söz öz-
gürlüğünün sağlandığı - - - - sonra söylev türü görülmeye başlanmıştır.

Bu cümlede boş bırakılan yere aşağıdakilerden hangisi getirilmelidir?

- A) Tanzimat'tan
B) II. Meşrutiyet'ten
C) Milli Mücadele'den
D) Cumhuriyet'ten

18. Aşağıdaki cümlelerin hangisinde "da, de"nin yazımı ile ilgili yazım **yanlışı** yapılmıştır?

- A) Bu romanı da severek okudum.
B) Son okuduğum öykü de olay örgüsü karışık.
C) İlkokulda başarılı bir öğrenciydim.
D) Ben de bu konuda farklı düşünüyorum.

19. Kayaların içine oyulmuş bir delikten yukarı tırmanmaya çalışıyoruz. "Oradan çıkamayız." diyor arkadaşım. "Ama başka yer yok." diyorum karşılık olarak. Civar köyün yakınlarındaki iki katlı bir "mağara evin" üst kattaki odalarına tırmanıyoruz. Ön cephe tamamen kopup düşmüş, oraya çıkmak için bu delikten başka şansımız yok. Normalde oldukça sert bir kayaç olan kireçtaşı, bu yörelerde inanılmaz derecede yumuşak.
Bir yerin anlatıldığı röportajdan alınan bu paragrafta hangi anlatım türleri kullanılmıştır?

- A) Öyküleyici – betimleyici
B) Öyküleyici – tartışmacı
C) Kanıtlayıcı – mizahi
D) Tartışmacı – betimleyici

20. Aşağıdakilerden hangisinde **bilgi yanlışı** vardır?

- A) Röportajlarda birçok kişinin gördüğü ve bildiği şeyleri ustaca anlatmak önemlidir.
B) Röportajlar bir tek yazı olabileceği gibi yazı dizisi şeklinde de olabilir.
C) Cicero, Latin edebiyatında söylev türünün öncüsüdür.
D) Söylevde söyleşmeye bağlı anlatım türü kullanılır.

(623) SEÇ. TÜRK ED. – 3

1. I. Göktürk
II. Arap
III. Latin
IV. Uygur

Türkler İslamiyet'ten önce yukarıda numaralanmış alfabelerden hangilerini kullanmışlardır?

- A) I ve II. B) I ve IV.
C) II ve III. D) III ve IV.

2. Toplum hayatında iz bırakan tarihî veya sosyal olayların yaşandığı ve bu olaylar içinde üstün niteliklerle yükseltilmiş efsanevi kahramanların rol aldığı destan oluşum aşamasına - - - - denir.

Bu cümlede boş bırakılan yere aşağıdakilerden hangisi getirilmelidir?

- A) doğuş aşaması
B) yayılma aşaması
C) derleme aşaması
D) yazıya geçirme aşaması

3. **Oğuz Kağan Destanı hangi devlet döneminde yazıya geçirilmiştir?**

- A) Selçuklular B) Osmanlılar
C) İlhanlılar D) Göktürkler

4. **Türkiye'de edebiyat tarihi incelemelerinde ilk defa bilimsel yöntemleri ortaya koyan sanatçı aşağıdakilerden hangisidir?**

- A) Faruk Nafiz Çamlıbel
B) Enis Behiç Koryürek
C) Yahya Kemal Beyatlı
D) Mehmet Fuat Köprülü

5. - - - -, edebî eserler sayesinde bir toplumun çağlar boyunca geçirdiği sosyal, siyasi, ekonomik ve düşünce alanındaki değişme ve gelişmeleri gözler önüne serer.
Bu cümlede boş bırakılan yere aşağıdakilerden hangisi getirilmelidir?

- A) Sanat tarihi
B) Uygarlık tarihi
C) Bilim tarihi
D) Edebiyat tarihi

6. **Orhun Anıtları'nı 19. yüzyılda ilk kez okuyan Danimarkalı bilim insanı aşağıdakilerden hangisidir?**

- A) W. Radloff
B) A. Von Gabain
C) S. Malov
D) W. Thomsen

7. Deriden kesilmiş insan, hayvan, bitki, eşya vb. birtakım figürlerin arkadan ışık verilerek bir perde üzerine yansıtılması temeline dayanan geleneksel Türk tiyatro çeşididir. İki ana kahraman etrafında gelişen bu oyun Evliya Çelebi'ye göre Anadolu'ya Selçuklular zamanında girmiştir.

Bu parçada tanıtılan oyun aşağıdakilerden hangisidir?

- A) Meddah
B) Orta oyunu
C) Gölge oyunu
D) Köy seyirlik oyunu

8. Tanzimat Dönemi'nde Türk aydın ve sanatçıları Batı'ya yönelmişlerdir. Bunun sonucunda zamanla toplum yapısında ve Türk kültüründe değişimler başlamıştır. Bu değişimler edebiyatın da yenileşmesini sağlamıştır. Bu yüzden bu dönemle birlikte "Batı Etkisinde Gelişen Türk Edebiyatı Dönemi" başlamış kabul edilir.

Bu parçaya göre Türk edebiyatında yeni bir dönemin başlamasında aşağıdakilerden hangisi daha etkili olmuştur?

- A) Kültürel farklılaşma
B) Dil anlayışı
C) Din değişikliği
D) Dil coğrafyası

3. OTURUM

9. I. Uma gelse kut gelir. (Eve konuk gelse uğur da gelir.)
II. Ağırda oğlak bolsa arıkta otı öner. (Ağırda oğlak doğsa ovada otu biter.)
III. Biş ernek tüz ermes. (Beş parmak düz olmaz.)
Numaralanmış cümleler aşağıdaki türlerden hangisine örnektir?

A) Sagu B) Sav
C) Koşuk D) Destan

10. **Sözlü Edebiyat Dönemi için aşağıdakilerden hangisi söylenemez?**

A) Hece ölçüsü kullanılmıştır.
B) Nazım birimi dördlüktür.
C) Düzyazı türünde eserler verilmiştir.
D) Tabiat, kahramanlık, aşk gibi konular ele alınmıştır.

11. **Aşağıdakilerden hangisi Uygur destanları arasında yer almaz?**

A) Bozkurt
B) Türeyiş
C) Göç
D) Mani Dininin Kabulü

12. Orhun Yazıtları ----, ---- ve ---- adına dikilmiştir.
Bu cümlede boş bırakılan yerlere aşağıdakilerden hangisi getirilemez?

A) Bilge Kağan B) Oğuz Kağan
C) Kül Tigin D) Tonyukuk

13. **Sözlü Edebiyat Dönemi'ndeki koşuk türünün halk edebiyatındaki karşılığı aşağıdakilerden hangisidir?**

A) Sav B) Sagu
C) Koşma D) Destan

14. **Orhun Yazıtları ile ilgili aşağıdaki bilgilerden hangisi yanlıştır?**

A) Bilge Kağan tarafından yazılmıştır.
B) Türk adının geçtiği ilk metinlerdir.
C) Göktürk alfabesi ile yazılmıştır.
D) Türklerin ilk yazılı eseridir.

15. Alp Er Tunga öldü mü
Geçici dünya kaldı mı
Felek öcünü aldı mı
Şimdi yürek yırtılır
Bu dördlükteki ilk üç dizede soru sorma sanatının kullanımının amacı aşağıdakilerden hangisidir?

A) Şaşkınlık duygusunu kuvvetlendirme
B) Bilinmeyenlere cevap arama
C) Şiirde ahenk oluşturma
D) İnsanların olay üzerinde düşüncelerini sağlama

16. I. Koşuk ve sagu yazılı edebiyat ürünüdür.
II. Koşuk ve sagularda söylenedikleri döneme ait bilgilere ulaşılır.
III. Koşuk, sagu ve savlar anonim ürünlerdir.

Numaralanmış cümleler doğru (D) - yanlış (Y) olarak değerlendirildiğinde sıralama aşağıdakilerden hangisi olur?

A) D - D - Y B) Y - Y - D
C) D - Y - D D) Y - D - D

17. İslamiyet öncesi Türk edebiyatında ağıt, yas şiiri anlamına gelen ----, toplum tarafından sevilen kimselerin ölümüne duyulan üzüntüyü ifade eden şiirlerdir.
Bu cümlede boş bırakılan yere aşağıdakilerden hangisi getirilmez?

A) sav B) sagu
C) koşuk D) destan

18. **Aşağıdakilerden hangisi doğal destan değildir?**

A) Ergenekon
B) Oğuz Kağan
C) Alp Er Tunga
D) Kaybolmuş Cennet

19. (I) Destanlar, toplumu etkileyen bir çekirdek olay etrafında gelişir. (II) Bu türde toplumun yaşama biçimiyle ilgili bilgilere ulaşmak mümkündür. (III) Destanlarda kahramanların başından geçen olağanüstü olaylar dile getirilir. (IV) Düzyazı türündeki bu eserler ana dilin en güzel örneklerini oluşturur.

Bu parçada numaralanmış cümlelerden hangisinde destanla ilgili yanlış bir bilgi verilmiştir?

A) I. B) II. C) III. D) IV.

20. **Aşağıdakilerden hangisi Orhun Yazıtları ile ilgili çalışma yapmamıştır?**

A) Necib Asım
B) Muharrem Ergin
C) Halit Ziya Uşaklıgil
D) Hüseyin Namık Orkun

(626) SEÇ. TÜRK ED. - 6

1. **Servetifünun Dönemi'nde aşağıdaki türlerin hangisinde daha az eser verilmiştir?**

A) Roman B) Hikâye
C) Tiyatro D) Şiir

2. Sanatçı Servet-i Fünun dergisinde yayımladığı "Şiirimiz" adlı makalesinde topluluğun sanat anlayışını ve eleştirilerini dile getirmiştir. Sanatçıya göre şiir, bütün insanların duygularının tercümanıdır. Bu nedenle şiirin ana teması insandır.

Bu parçada söz edilen sanatçı aşağıdakilerden hangisidir?

A) Ahmet Rasim
B) Ali Ekrem Bolayır
C) Ahmet Hikmet Müftüoğlu
D) Mehmet Âkif Ersoy

3. **Aşağıdakilerden hangisi Servetifünun şiiri için söylenemez?**

A) Sembolizm ve parnasizm akımlarının etkisindedir.
B) Aşk, doğa gibi bireysel konular işlenmiştir.
C) Batı'dan sone ve terzarima gibi türler alınmıştır.
D) Sade ve anlaşılır bir dil kullanılmaya çalışılmıştır.

3. OTURUM

4. Servet-i Fünun dergisi aşağıdaki gelişmelerden hangisinin sonucunda kapatılmıştır?

- A) Tevfik Fikret'in dergiden ayrılması
- B) Meşrutiyet yönetiminin ilan edilmesi
- C) Aşk-ı Memnu romanının dergide tefrika edilmesi
- D) "Edebiyat ve Hukuk" makalesinin dergide yayımlanması

5. 19. yüzyılda romantizme tepki olarak doğmuş bir edebî akımdır. Bu akımda gerçeği olduğu gibi anlatmak amaçlanmıştır. Bu akıma bağlı sanatçılar eserlerinde duyguları, okuyucuda gerçeklik fikri uyandıracak tahlil ve tasvirlerle anlatmışlardır.

Bu parçada sözü edilen edebî akım aşağıdakilerden hangisidir?

- A) Klasisizm
- B) Realizm
- C) Fütürizm
- D) Sembolizm

6. Edebiyatımızda ilk kez bir bildiri ile kurulduğunu ilan eden edebî topluluk aşağıdakilerden hangisidir?

- A) Yedi Meşaleciler
- B) Fecriati
- C) Servetifünun
- D) Beş Hececiler

7. I. Edebiyata herhangi bir yenilik getirememeleri
II. Klasisizm akımına bağlı kalmaları
III. Doğal olmayan bir dil ve üslup kullanmaları
IV. Şiir türüne gereken önemi vermemeleri

Yukarıdakilerden hangileri Fecriati topluluğuna yöneltilen eleştiriler arasında gösterilemez?

- A) I ve II.
- B) II ve III.
- C) II ve IV.
- D) III ve IV.

8. Servetifünun'un en önemli roman-cılarından. Birçok türde eser vermiştir. Bireysel konuları ele alan sanatçının en önemli eseri "Eylül" adlı romanıdır. Ancak bu eserden sonra güçlü bir eser verememiştir.

Bu parçada sözü edilen sanatçı aşağıdakilerden hangisidir?

- A) Mehmet Rauf
- B) Ahmet Rasim
- C) Halit Ziya Uşaklıgil
- D) Hüseyin Cahit Yalçın

9. Edebiyatımızda mensur şiir türünde eser veren sanatçılar aşağıdakilerin hangisinde bir arada verilmiştir?

- A) Mehmet Rauf – Halit Ziya Uşaklıgil
- B) Tevfik Fikret – Hüseyin Rahmi Gürpınar
- C) Halit Ziya Uşaklıgil – Ahmet Haşim
- D) Ahmet Mithat Efendi – Mehmet Rauf

10. Tevfik Fikret'in hece ölçüsüyle çocuklar için yazdığı şiir kitabı aşağıdakilerden hangisidir?

- A) Haluk'un Defteri
- B) Rubab-ı Şikeste
- C) Tarih-i Kadim
- D) Şermin

11. I. Aşk-ı Memnu
II. Tamat
III. Hac Yolunda
IV. Ruh-ı Bîkayd
V. Eylül

Yukarıdaki eserler tür olarak eşleştirildiğinde hangisi dışta kalır?

- A) II.
- B) III.
- C) IV.
- D) V.

12. Aşağıdakilerden hangisi Beş Hececiler topluluğu sanatçılarından biri değildir?

- A) Yusuf Ziya Ortaç
- B) Orhan Seyfi Orhon
- C) Enis Behiç Koryürek
- D) Yakup Kadri Karaosmanoğlu

13. - - - - , Osmanlı Devleti içerisinde yaşayan herkesin dil, din, ırk ayrımı gözetmeksizin eşit olduğunu savunan görüştür.

Bu cümlede boş bırakılan yere aşağıdakilerden hangisi getirilmelidir?

- A) İslamcılık
- B) Batıcılık
- C) Osmanlıcılık
- D) Türkçülük

14. I. Servetifünun
II. Fecriati
III. Tanzimat
IV. Millî Edebiyat

Bu edebî dönemlerin kronolojik sıralaması aşağıdakilerden hangisinde doğru olarak verilmiştir?

- A) I – II – IV – III
- B) II – IV – I – III
- C) III – I – II – IV
- D) IV – III – I – II

15. Aşağıdakilerden hangisi Millî Edebiyat sanatçılarından amaçlarındandır?

- A) Konuşma dilini edebî dil hâline getirmek
- B) Aruz ölçüsünü Türkçeye uygulamak
- C) Batı'daki edebî gelişmeleri yakından takip etmek
- D) Sanat için sanat anlayışıyla eser vermek

16. Aşağıdaki eser-sanatçı eşleştirmelerinden hangisi yanlıştır?

- A) Yeşil Gece – Reşat Nuri Güntekin
- B) Sinekli Bakkal – Halide Edip Adivar
- C) Yüksek Ökçeler – Mehmet Emin Yurdakul
- D) Siyah İnciler – Mehmet Rauf

3. OTURUM

(975) GİRİŞİMCİLİK – 2

17. Hikâye, roman, anı türlerinde eser veren sanatçı başlangıçta bireysel tutkuları, kadın psikolojisini ele aldı. Kurtuluş Savaşı yıllarında ise millî temalara yönelmiş ve ülkenin kurtuluşuna ilişkin konuları ele almıştır. Ateşten Gömlek, Vurun Kahpeye sanatçının önemli eserlerindedir.

Bu parçada tanıtılan sanatçı aşağıdakilerden hangisidir?

- A) Ziya Gökalp
- B) Mehmet Rauf
- C) İbrahim Şinasi
- D) Halide Edip Adivar

18. (I) Sanatçı, edebî hayatına Fecriati topluluğunda başlamış, daha sonra Millî Edebiyat anlayışına uygun eserler vermiştir. (II) Manzum hikâye, şiir, gezi yazısı ve roman türlerinde eserler vermiştir. (III) İlk romanı Kiralık Konak'ta kuşaklar arası çatışmayı işlemiştir. (IV) Her bir romanında bir dönemi ya da toplumsal olayları irdelemiştir.

Bu parçada numaralanmış cümlelerin hangisinde Yakup Kadri Karaosmanoğlu ile ilgili yanlış bir bilgi verilmiştir?

- A) I. B) II. C) III. D) IV.

19. Genç Kalemler dergisinde yayımlanan Yeni Lisan adlı makalesiyle Millî Edebiyat Dönemi'nin başlamasını sağlayan sanatçı aşağıdakilerden hangisidir?

- A) Ziya Gökalp
- B) Ömer Seyfettin
- C) Mehmet Emin Yurdakul
- D) Halide Edip Adivar

20. Aşağıdaki eserlerden hangisi Mehmet Emin Yurdakul'a ait değildir?

- A) Türk Sazı
- B) Türkçe Şiirler
- C) Ey Türk Uyan
- D) Türkçülüğün Esasları

1. Aşağıda verilen faktörlerden hangisi bir işletmenin dış çevresinde yer alır?

- A) İş gücü B) Finans
- C) Üretim D) Personel

2. Çelik üretiminde kullanılan pik demir, hangi tür üretim malla-rındandır?

- A) Yardımcı araçlar
- B) Yatırım donatım malları
- C) Üretim gereçleri ve malları
- D) Hammaddeler

3. "Hizmet işletmesi reklamı" hangi reklam çeşidi kapsamına girer?

- A) Yapanlar açısından
- B) Hedef kitle açısından
- C) Amaçlar açısından
- D) Reklam içeriği açısından

4. Bir şirketin diğer işletmelere ait hisse senetlerine sahip olması yolu ile onları finansal ve yönetim olarak kontrolüne alma biçimine ne ad verilir?

- A) Kartel B) Holding
- C) Tröst D) Konsorsiyum

5. Çevre ile ilgili kalite belgesi aşağıdakilerden hangisidir?

- A) ISO 8000 B) ISO 9000
- C) ISO 14000 D) ISO 22000

6. Aşağıdakilerden hangisi günümüzde müteşebbisliğin çok önemli bir konuma sahip olmasının nedenleri arasında gösterilemez?

- A) İthalatın artmasını sağlar.
- B) Vergi gelirlerinin artmasını sağlar.
- C) Kamu hizmetlerinin kalitesini artırır.
- D) Alt yapı hizmetlerinin giderilmesini sağlar.

7. Aşağıdakilerden hangisi bir işletmenin kuruluş yeri etmenlerinden birisi olarak düşünülemez?

- A) Askeri tehlike
- B) Sermaye faizi
- C) Personel giderleri
- D) Sosyal kültürel şartlar

8. Bir kişinin araba satın alması aşağıdakilerden hangisine örnek teşkil eder?

- A) Arz B) Talep
- C) İstek D) Piyasa

9. Giyim mağazaları hangi tür işletmelere örnektir?

- A) Sanayi işletmeleri
- B) Kiralama işletmeleri
- C) Ticaret işletmeleri
- D) Finans işletmeleri

10. Maslow'un ihtiyaçlar hiyerarşisine göre bir insanın saygı ihtiyacından sonra ortaya çıkacak ihtiyacı aşağıdakilerden hangisidir?

- A) Güvenlik
- B) Başarma
- C) Fizyolojik
- D) Sevgi ve ait olma

11. Aşağıdakilerden hangisi franchising türü değildir?

- A) Ürün ve marka franchisingi
- B) Uluslararası franchising
- C) Ulusal franchising
- D) Patent franchisingi

12. Aşağıdakilerden hangisi fizibilite etüdünün yapılaş amaçlarındandır?

- A) Müşterilerden gelen şikayetleri dinlemek
- B) İşletmenin hangi büyüklükte ve nerede kurulacağını belirlemek
- C) Prototip üretimi yapacak tesisi kurmak
- D) Araştırma giderlerini artırmak

3. OTURUM

13. Mal ya da hizmetleri bireysel ihtiyaçları için alanlara "son tüketici" denir.

Buna göre aşağıdakilerden hangisi son tüketicidir?

- A) Normal insanlar
- B) Fabrikatörler
- C) Girişimciler
- D) Robotlar

14. Aşağıdakilerden hangisi hukuki şekilleri bakımından işletmeler grubunda yer almaz?

- A) Ticaret işletmeleri
- B) Özel işletmeler
- C) Kamu işletmeleri
- D) Yabancı sermayeli işletmeler

15. Aşağıdakilerden hangisi iyi bir iş planının girişimciye sağlayacağı yararlarından değildir?

- A) İşletmenin pozisyonunu gösterir.
- B) İşletmenin pazara yakınlığını sağlar.
- C) Girişimcilerin ve çalışanların dikkatini amaca yöneltir.
- D) Yatırım kararı almış girişimciye rehberlik eder.

16. Aşağıdakilerden hangisi kamu işletmesi değildir?

- A) Kooperatifler
- B) Özel bütçeli işletmeler
- C) Kamu İktisadi Teşekkülleri
- D) Özerk bütçeli devlet işletmeleri

17. Aşağıdaki bankalardan hangisi, ülkemizdeki KOBİ'lere (küçük ve orta büyüklükteki işletmeler) en büyük kredi desteği veren kuruluştur?

- A) Türkiye Halk Bankası
- B) Ziraat Bankası
- C) Türk Eximbank
- D) Sümerbank

18. İnternet girişimciliğinde paranın yerini aşağıdakilerden hangisi almıştır?

- A) Çek
- B) Senet
- C) Kredi kartları
- D) Hazine bonoları

19. Türk Ticaret Kanunu'na göre bir ticari işletmeyi kısmen de olsa kendi adına işleten kişiye ne ad verilir?

- A) İşletmeci
- B) Tacir
- C) Müdür
- D) İşçi

20. Özel bir girişimcinin yapacağı yatırıma temel oluşturacak ön projelerin değerlendirilmesinde ana ölçüt aşağıdakilerden hangisidir?

- A) İstihdam
- B) Projenin yöre için önemi
- C) Üretimin temel süreçleri
- D) Girişimin sağlayacağı kâr

TEST BİTTİ.
CEVAPLARINIZI KONTROL EDİNİZ.

SINAV SÜRESİNCE UYULACAK KURALLAR

1. Adaylar, sınav kurallarına ve salon görevlilerinin tüm uyarılarına uymak zorundadırlar. Kurallara ve uyarılara uymayan adayların sınavları geçersiz sayılacaktır.
2. Sınav başladıktan sonra adayların salon görevlileri ve birbirleri ile konuşmaları, kalem, silgi vb. şeyleri istemeleri yasaktır.
3. Adaylar sınav süresince, sınav giriş belgesi ile birlikte kimlik belgelerinden birini (nüfus cüzdanı, pasaport veya sürücü belgesi) masalarının üzerinde bulundurmamak zorundadırlar.

SALON GÖREVLİLERİNCE SINAV BAŞLAMADAN ÖNCE ADAYLARA YAPILACAK SON UYARI

- Soracağınız bir şey var mı? Varsa şimdi sorunuz.
- Sınav başladıktan sonra sorularınıza cevap verilmeyecektir.
- Başlama zilini bekleyiniz.
- Hepinize başarılar dileriz.

(Salon başkanı başlama ve bitiş saatini tahtaya yazacaktır.)

Bu kitapçığın her hakkı saklıdır. Hangi amaçla olursa olsun, kitapçığın tamamının veya bir kısmının Millî Eğitim Bakanlığı Ölçme, Değerlendirme ve Sınav Hizmetleri Genel Müdürlüğünün yazılı izni olmadan kopya edilmesi, fotoğraflarının çekilmesi, bilgisayar ortamına alınması, herhangi bir yolla çoğaltılması, yayımlanması veya başka bir amaçla kullanılması yasaktır. Bu yasağa uymayanlar, doğabilecek cezai sorumluluğu ve kitapçığın hazırlanmasındaki mali külfeti peşinen kabullenmiş sayılır.

12 HAZİRAN 2016 TARİHİNDE YAPILAN AÇIKÖĞRETİM LİSESİ / MESLEKİ AÇIKÖĞRETİM LİSESİ
2015-2016 ÖĞRETİM YILI 3. DÖNEM SINAVI 3. OTURUM T KİTAPÇIĞI CEVAP ANAHTARI

(113) DİN KÜL. AHL. BİL. – 3

1. B
2. B
3. A
4. D
5. C
6. B
7. D
8. A
9. C
10. C
11. A
12. C
13. C
14. B
15. A
16. D
17. D
18. C
19. D
20. A

(116) DİN KÜL. AHL. BİL. – 6

1. B
2. D
3. B
4. C
5. C
6. A
7. D
8. A
9. A
10. B
11. D
12. B
13. C
14. B
15. D
16. A
17. A
18. B
19. C
20. D

(124) SEÇMELİ FELSEFE – 2

1. D
2. C
3. C
4. A
5. B
6. D
7. C
8. A
9. B
10. B
11. A
12. D
13. A
14. B
15. D
16. C
17. A
18. D
19. C
20. B

(134) TARİH– 4

1. C
2. A
3. C
4. A
5. D
6. B
7. C
8. D
9. B
10. A
11. A
12. C
13. B
14. D
15. A
16. D
17. C
18. B
19. D
20. A

(114) DİN KÜL. AHL. BİL. – 4

1. B
2. D
3. B
4. D
5. A
6. B
7. C
8. D
9. B
10. C
11. A
12. D
13. A
14. D
15. C
16. A
17. C
18. A
19. C
20. D

(122) FELSEFE – 2

1. C
2. C
3. D
4. A
5. C
6. A
7. B
8. D
9. D
10. A
11. D
12. C
13. B
14. A
15. C
16. B
17. A
18. B
19. D
20. B

(133) TARİH – 3

1. A
2. D
3. C
4. B
5. B
6. A
7. C
8. D
9. B
10. D
11. A
12. C
13. C
14. D
15. A
16. B
17. C
18. B
19. D
20. B

(142) T.C. İNK. TAR. ATA. – 2

1. D
2. B
3. A
4. A
5. C
6. B
7. D
8. A
9. A
10. C
11. C
12. A
13. B
14. D
15. B
16. A
17. C
18. B
19. B
20. D

12 HAZİRAN 2016 TARİHİNDE YAPILAN AÇIKÖĞRETİM LİSESİ / MESLEKİ AÇIKÖĞRETİM LİSESİ
2015-2016 ÖĞRETİM YILI 3. DÖNEM SINAVI 3. OTURUM T KİTAPÇIĞI CEVAP ANAHTARI

(153) COĞRAFYA – 3

1. A
2. A
3. C
4. D
5. C
6. D
7. D
8. B
9. B
10. A
11. A
12. D
13. C
14. B
15. C
16. D
17. A
18. B
19. C
20. B

(158) COĞRAFYA – 8

1. B
2. A
3. C
4. A
5. D
6. C
7. B
8. D
9. A
10. A
11. B
12. C
13. D
14. B
15. C
16. D
17. D
18. B
19. C
20. A

(165) MATEMATİK – 5

1. B
2. A
3. D
4. A
5. D
6. A
7. D
8. B
9. C
10. A
11. A
12. D
13. B
14. B
15. C
16. C
17. A
18. C
19. B
20. D

(209) SOSYOLOJİ – 2

1. A
2. B
3. D
4. C
5. A
6. B
7. D
8. B
9. D
10. C
11. A
12. B
13. C
14. B
15. D
16. C
17. A
18. C
19. D
20. A

(154) COĞRAFYA – 4

1. C
2. D
3. A
4. A
5. B
6. C
7. A
8. C
9. C
10. B
11. D
12. D
13. A
14. B
15. D
16. A
17. D
18. B
19. B
20. C

(163) MATEMATİK – 3

1. D
2. A
3. C
4. A
5. B
6. D
7. C
8. D
9. A
10. B
11. A
12. C
13. C
14. D
15. B
16. A
17. C
18. B
19. B
20. D

(206) PSİKOLOJİ – 1

1. A
2. B
3. A
4. C
5. D
6. D
7. C
8. D
9. C
10. B
11. D
12. A
13. C
14. A
15. C
16. B
17. B
18. C
19. A
20. D

(242) İNGİLİZCE – 3

1. A
2. C
3. B
4. A
5. D
6. C
7. A
8. B
9. B
10. D
11. A
12. C
13. B
14. D
15. B
16. A
17. C
18. C
19. D
20. A

12 HAZİRAN 2016 TARİHİNDE YAPILAN AÇIKÖĞRETİM LİSESİ / MESLEKİ AÇIKÖĞRETİM LİSESİ
2015-2016 ÖĞRETİM YILI 3. DÖNEM SINAVI 3. OTURUM T KİTAPÇIĞI CEVAP ANAHTARI

(242) ALMANCA – 3

1. A
2. B
3. C
4. D
5. D
6. A
7. C
8. D
9. B
10. C
11. A
12. D
13. B
14. B
15. C
16. B
17. A
18. C
19. D
20. A

(403) DİL VE ANLATIM – 3

1. B
2. B
3. D
4. C
5. A
6. D
7. B
8. C
9. A
10. D
11. D
12. B
13. C
14. A
15. B
16. D
17. A
18. A
19. C
20. B

(406) DİL VE ANLATIM – 6

1. A
2. C
3. B
4. B
5. D
6. B
7. A
8. C
9. D
10. D
11. B
12. C
13. A
14. C
15. A
16. B
17. D
18. B
19. D
20. C

(416) TÜRK EDEBİYATI – 6

1. A
2. C
3. B
4. D
5. C
6. C
7. B
8. A
9. A
10. D
11. D
12. C
13. A
14. A
15. D
16. B
17. B
18. C
19. B
20. C

(242) FRANZIZCA – 3

1. D
2. A
3. C
4. B
5. A
6. C
7. B
8. B
9. B
10. C
11. D
12. A
13. C
14. A
15. B
16. D
17. C
18. D
19. B
20. A

(405) DİL VE ANLATIM – 5

1. C
2. B
3. D
4. C
5. A
6. D
7. A
8. B
9. D
10. C
11. B
12. D
13. A
14. C
15. C
16. D
17. D
18. C
19. B
20. A

(413) TÜRK EDEBİYATI – 3

1. A
2. B
3. D
4. C
5. D
6. A
7. D
8. A
9. B
10. C
11. C
12. B
13. A
14. A
15. D
16. C
17. B
18. B
19. D
20. A

(426) FİZİK – 6

1. A
2. C
3. D
4. B
5. D
6. C
7. A
8. D
9. C
10. D
11. A
12. B
13. B
14. B
15. C
16. D
17. C
18. D
19. A
20. A

12 HAZİRAN 2016 TARİHİNDE YAPILAN AÇIKÖĞRETİM LİSESİ / MESLEKİ AÇIKÖĞRETİM LİSESİ
2015-2016 ÖĞRETİM YILI 3. DÖNEM SINAVI 3. OTURUM T KİTAPÇIĞI CEVAP ANAHTARI

(427) FİZİK – 7

1. C
2. C
3. D
4. D
5. C
6. D
7. A
8. A
9. D
10. B
11. B
12. B
13. A
14. C
15. B
16. A
17. B
18. C
19. D
20. C

(433) KİMYA – 3

1. C
2. B
3. B
4. D
5. C
6. D
7. B
8. A
9. A
10. B
11. D
12. A
13. C
14. B
15. C
16. D
17. A
18. B
19. C
20. D

(435) KİMYA – 5

1. B
2. C
3. D
4. A
5. B
6. A
7. C
8. D
9. D
10. A
11. C
12. C
13. B
14. A
15. B
16. D
17. C
18. A
19. B
20. D

(448) BİYOLOJİ – 8

1. A
2. C
3. D
4. C
5. A
6. C
7. B
8. D
9. A
10. B
11. C
12. A
13. D
14. A
15. D
16. B
17. D
18. D
19. A
20. B

(428) FİZİK – 8

1. B
2. A
3. C
4. D
5. B
6. A
7. C
8. B
9. B
10. B
11. A
12. C
13. A
14. C
15. B
16. C
17. D
18. D
19. D
20. A

(434) KİMYA – 4

1. B
2. C
3. D
4. C
5. B
6. B
7. B
8. D
9. C
10. D
11. A
12. B
13. A
14. D
15. A
16. B
17. B
18. A
19. C
20. D

(445) BİYOLOJİ – 5

1. D
2. D
3. D
4. A
5. C
6. B
7. B
8. C
9. D
10. A
11. D
12. B
13. A
14. C
15. B
16. B
17. C
18. A
19. C
20. D

(452) ÇAĞ. TÜRK DÜN. TAR. – 2

1. A
2. D
3. C
4. B
5. B
6. D
7. A
8. A
9. C
10. B
11. D
12. C
13. A
14. D
15. C
16. C
17. B
18. A
19. D
20. B

12 HAZİRAN 2016 TARİHİNDE YAPILAN AÇIKÖĞRETİM LİSESİ / MESLEKİ AÇIKÖĞRETİM LİSESİ
2015-2016 ÖĞRETİM YILI 3. DÖNEM SINAVI 3. OTURUM T KİTAPÇIĞI CEVAP ANAHTARI

(462) EKONOMİ – 2

1. D
2. C
3. B
4. A
5. A
6. A
7. C
8. A
9. B
10. D
11. C
12. B
13. D
14. A
15. B
16. B
17. C
18. C
19. D
20. C

(478) MANTIK – 1

1. D
2. B
3. C
4. D
5. C
6. B
7. A
8. D
9. A
10. B
11. C
12. B
13. C
14. A
15. C
16. D
17. A
18. D
19. A
20. B

(500) ALMANCA – 6

1. B
2. A
3. D
4. C
5. D
6. B
7. A
8. C
9. D
10. C
11. C
12. A
13. B
14. D
15. B
16. B
17. C
18. D
19. A
20. A

(503) SEÇMELİ TARİH – 3

1. A
2. C
3. B
4. A
5. B
6. D
7. C
8. A
9. D
10. B
11. A
12. A
13. C
14. D
15. B
16. D
17. A
18. C
19. B
20. A

(468) MATEMATİK – 8

1. B
2. D
3. B
4. A
5. C
6. A
7. C
8. D
9. D
10. B
11. C
12. D
13. B
14. C
15. A
16. B
17. C
18. A
19. D
20. B

(500) İNGİLİZCE – 6

1. B
2. A
3. D
4. C
5. A
6. D
7. C
8. A
9. C
10. B
11. A
12. D
13. A
14. C
15. D
16. D
17. B
18. C
19. B
20. D

(500) FRANSIZCA – 6

1. A
2. C
3. D
4. C
5. B
6. B
7. A
8. C
9. B
10. D
11. C
12. A
13. C
14. D
15. B
16. C
17. D
18. A
19. B
20. C

(504) SEÇMELİ TARİH – 4

1. A
2. C
3. B
4. D
5. C
6. D
7. A
8. C
9. B
10. D
11. B
12. C
13. A
14. A
15. D
16. C
17. A
18. B
19. D
20. C

12 HAZİRAN 2016 TARİHİNDE YAPILAN AÇIKÖĞRETİM LİSESİ / MESLEKİ AÇIKÖĞRETİM LİSESİ
2015-2016 ÖĞRETİM YILI 3. DÖNEM SINAVI 3. OTURUM T KİTAPÇIĞI CEVAP ANAHTARI

(505) SEÇMELİ COĞRAFYA – 3

1. İPTAL
2. A
3. C
4. B
5. C
6. B
7. D
8. D
9. B
10. B
11. A
12. C
13. D
14. A
15. D
16. B
17. C
18. A
19. A
20. D

(533) HZ. MUHAMMED'İN HAY. – 3

1. B
2. A
3. A
4. C
5. D
6. C
7. A
8. C
9. D
10. B
11. D
12. A
13. D
14. C
15. B
16. D
17. D
18. B
19. C
20. A

(608) DEM. VE İNSAN HAKLARI – 2

1. A
2. D
3. C
4. B
5. A
6. B
7. D
8. A
9. C
10. A
11. B
12. C
13. D
14. B
15. C
16. D
17. A
18. C
19. D
20. B

(615) SEÇ. DİL ANLA. – 5

1. D
2. B
3. A
4. D
5. C
6. A
7. B
8. D
9. B
10. C
11. D
12. B
13. A
14. C
15. D
16. A
17. C
18. C
19. B
20. D

(506) SEÇMELİ COĞRAFYA – 4

1. B
2. D
3. A
4. A
5. C
6. D
7. C
8. B
9. D
10. A
11. C
12. A
13. C
14. B
15. C
16. D
17. A
18. B
19. D
20. B

(534) HZ. MUHAMMED'İN HAY. – 4

1. B
2. C
3. D
4. A
5. C
6. B
7. D
8. A
9. C
10. B
11. B
12. D
13. A
14. C
15. D
16. C
17. D
18. A
19. B
20. A

(613) SEÇ. DİL ANLA. – 3

1. C
2. B
3. B
4. A
5. B
6. D
7. D
8. C
9. C
10. A
11. B
12. D
13. B
14. C
15. D
16. A
17. B
18. C
19. B
20. A

(616) SEÇ. DİL ANLA. – 6

1. D
2. B
3. A
4. C
5. A
6. B
7. C
8. A
9. D
10. C
11. A
12. A
13. D
14. C
15. B
16. C
17. B
18. B
19. A
20. D

12 HAZİRAN 2016 TARİHİNDE YAPILAN AÇIKÖĞRETİM LİSESİ / MESLEKİ AÇIKÖĞRETİM LİSESİ
2015-2016 ÖĞRETİM YILI 3. DÖNEM SINAVI 3. OTURUM T KİTAPÇIĞI CEVAP ANAHTARI

(623) SEÇMELİ TÜRK EDEB. – 3

1. B
2. A
3. C
4. D
5. D
6. D
7. C
8. A
9. B
10. C
11. A
12. B
13. C
14. A
15. A
16. D
17. B
18. D
19. D
20. C

(975) GİRİŞİMCİLİK – 2

1. A
2. C
3. A
4. B
5. C
6. A
7. C
8. B
9. C
10. B
11. D
12. B
13. A
14. A
15. B
16. A
17. A
18. C
19. B
20. D

(626) SEÇMELİ TÜRK EDEB. – 6

1. C
2. B
3. D
4. D
5. B
6. B
7. C
8. A
9. A
10. D
11. B
12. D
13. C
14. C
15. A
16. C
17. D
18. B
19. B
20. D