

OTURUM

1



T.C.
MİLLÎ EĞİTİM BAKANLIĞI
ÖLÇME, DEĞERLENDİRME VE SINAV HİZMETLERİ
GENEL MÜDÜRLÜĞÜ

T

AÇIK ÖĞRETİM LİSESİ / MESLEKİ AÇIKÖĞRETİM LİSESİ
2015-2016 ÖĞRETİM YILI 2. DÖNEM SINAVI
1. OTURUM: 19 MART 2016 Saat: 09.30

<u>DERS KODU VE ADI</u>	<u>SAYFA</u>	<u>DERS KODU VE ADI</u>	<u>SAYFA</u>	<u>DERS KODU VE ADI</u>	<u>SAYFA</u>
(111) DİN KÜL. AHL. BİL. – 1	3	(407) DİL VE ANLATIM – 7	26	(502) İNGİLİZCE – 8	53
(112) DİN KÜL. AHL. BİL. – 2	4	(408) DİL VE ANLATIM – 8	27	(502) ALMANCA – 8	54
(115) DİN KÜL. AHL. BİL. – 5	5	(414) TÜRK EDEBİYATI – 4	29	(502) FRANZIZCA – 8	55
(121) FELSEFE – 1	7	(417) TÜRK EDEBİYATI – 7	31	(511) FIKİH – 1	56
(123) SEÇMELİ FELSEFE – 1	8	(418) TÜRK EDEBİYATI – 8	32	(532) HZ. MUHAMMED'İN HAY. – 2	57
(132) TARİH – 2	10	(421) FİZİK – 1	34	(609) MATEMATİK – 6	59
(136) TARİH – 6	11	(425) FİZİK – 5	36	(611) KARŞ. DİN. TAR. – 1	60
(151) COĞRAFYA – 1	12	(432) KİMYA – 2	37	(617) SEÇ. DİL VE ANLA. – 7	62
(155) COĞRAFYA – 5	14	(436) KİMYA – 6	39	(618) SEÇ. DİL VE ANLA. – 8	63
(157) COĞRAFYA – 7	15	(441) BİYOLOJİ – 1	40	(624) SEÇ. TÜRK ED. – 4	65
(181) İNGİLİZCE – 1	17	(443) BİYOLOJİ – 3	42	(627) SEÇ. TÜRK ED. – 7	66
(181) ALMANCA – 1	18	(446) BİYOLOJİ – 6	43	(628) SEÇ. TÜRK ED.. – 8	68
(181) FRANZIZCA – 1	19	(461) EKONOMİ – 1	45	(711) İSLAM TARİHİ – 1	70
(244) İNGİLİZCE – 5	20	(465) TEMEL DİNİ BİL. – 1	46	(811) KELAM – 1	71
(244) ALMANCA – 5	21	(477) İŞLETME – 2	47	(931) SİYER – 1	73
(244) FRANZIZCA – 5	22	(479) MANTIK – 2	49	(974) GİRİŞİMCİLİK – 1	74
(401) DİL VE ANLATIM – 1	23	(484) SAĞLIK BİLGİSİ – 2	50	(999) MATEMATİK – 2	75
(402) DİL VE ANLATIM – 2	24	(491) TRAF. VE İLK YARD. – 1	51		

ADAYLARIN DİKKATİNE!

- Her ders için **20** soru bulunmaktadır. Bu oturumda **180** dakikalık cevaplama süreniz vardır. Sınav başladıktan sonra ilk **30** dakika dolmadan dışarı çıkmayınız.
- Sınav sırasında sözlük, hesap cetveli veya makinesi, çağrı cihazı, cep telefonu, telsiz, radyo gibi elektronik iletişim araçlarını yanınızda bulundurmuyunuz. Bu araçları kullanmanız ve kopya çekmeye teşebbüs etmeniz hâlinde sınavınız geçersiz sayılacaktır.
- Başvuru şartlarını taşımadığınız hâlde sınava girmeniz, kopya çekmeniz, başka adayın sınav evrakını kullanmanız, geçerli kimlik belgenizi ve sınav giriş belgenizi ibraz edemediğiniz durumlarda sınavınız geçersiz sayılacaktır.
- Sınavın değerlendirilmesi aşamasında, kopya tespiti hâlinde sınavınız geçersiz sayılacaktır.

CEVAP KÂĞIDI VE SORU KİTAPÇIĞI İLE İLGİLİ AÇIKLAMALAR

- Cevap kâğıdınızdaki bilgilerin doğruluğunu kontrol ediniz ve cevap kâğıdınızı mürekkepli kalemle imzalayınız.
- Cevap kâğıdı üzerinde kodlamalarınızı kurşun kalemle yapınız.
- Değiştirmek istediğiniz bir cevabı, yumuşak silgiyle cevap kâğıdını örselemeden temizce siliniz ve yeni cevabınızı kodlayınız.
- Soru kitapçığının sayfalarını kontrol ediniz, baskı hatası var ise değiştirilmesini sağlayınız.
- Soruların çözümü için size ayrıca boş kâğıt verilmeyecektir. Soru kitapçığının içindeki boş alanları soru çözümleri için kullanabilirsiniz.
- Her sorunun dört seçeneğinden sadece biri doğrudur. Doğru seçeneği, cevap kâğıdınızın ilgili sütununa soru numarasını dikkate alarak yuvarlağın dışına taşırmadan kodlayınız. **Soru kitapçığı üzerinde yapılan cevaplandırmalar dikkate alınmayacaktır.**
- Cevaplamaya istediğiniz dersin sorusundan başlayabilirsiniz. Cevabını bilmediğiniz sorular üzerinde fazla zaman kaybetmeden diğer sorulara geçiniz. Zamanınız kalırsa bu sorulara daha sonra dönebilirsiniz.
- Yanlış cevaplarınız dikkate alınmadan sadece doğru cevaplarınız üzerinden puanlama yapılacaktır.
- Soruları ve sorulara verdiğiniz cevapları, yanınızda götürmek amacıyla kaydetmeyiniz; hiçbir şekilde dışarı çıkarmayınız.
- Sınav bitiminde, soru kitapçığı ve cevap kâğıdını salon görevlilerine teslim ediniz.**

BAŞLAYINIZ DENİLMEYEN SORU KİTAPÇIĞINI AÇMAYINIZ.

1. OTURUM

(111) DİN KÜL. AHL. BİL. – 1

1. Dünya kendi eksenini etrafındaki dönüşünü 24 saatte ve 1000 mil hızla tamamlamaktadır. Eğer dünyamız 100 mil hızla dönseydi gece ve gündüzlerimiz on kat daha uzun olurdu. Bu durumda çoğu canlı hayatını devam ettiremezdi.

Bu metinden aşağıdaki sonuçlardan hangisi çıkarılamaz?

- A) Dünya belli bir düzene göre yaratılmıştır.
- B) Dünyadaki düzenin bozulması canlıların yaşamlarını etkiler.
- C) Dünyadaki düzen, canlıların yaşamlarını sürdürebilecekleri şekilde tasarlanmıştır.
- D) Dünyada yaşamın sürdürülebilmesi için toplumsal yasalara uymak zorunludur.

2. Aşağıdakilerden hangisi insanı diğer canlılardan ayıran özellikler arasında yer almaz?

- A) Düşünme
- B) Anlama
- C) İşitme
- D) İrade

3. Tek tanrı inancının İslam dinindeki karşılığı aşağıdakilerden hangisidir?

- A) İhlas
- B) Tevhit
- C) İhsan
- D) Tebliğ

4. Aşağıdakilerden hangisi politeist inanca sahip dinlerden biridir?

- A) İslam
- B) Sihizm
- C) Şintoizm
- D) Yahudilik

5. • Tanrının varlığı kabul edilmez.
• “Yok”un ispatlanması mümkün değildir.
• Nietzsche ve Sartre tarafından geliştirilen bu sistem bunalım felsefesi olarak da adlandırılır.

Hakkında bilgi verilen düşünce sistemi aşağıdakilerden hangisidir?

- A) Ateizm
- B) Politeizm
- C) Monoteizm
- D) Pragmatizm

6. İslam dininde; Yüce Yaratıcı'yı hoşnut etmek için, Onun emir ve yasalarını yerine getirmektir.

Verilen tanım aşağıdakilerden hangisine aittir?

- A) Tefekkür
- B) İbadet
- C) Kader
- D) Dua

7. Aşağıdakilerden hangisi “Niçin Allah’a ibadet edilir?” sorusunun cevabı olamaz?

- A) Şükretmek için
- B) Farz olduğu için
- C) Sevap kazanmak için
- D) Menfaat sağlamak için

8. “Elbiseni temiz tut. Kötü şeylerden sakın.” (Müddessir suresi, 4-5. ayetler)

Bu ayetlerden aşağıdaki sonuçlardan hangisi çıkarılamaz?

- A) İbadetler sürekli yapılmalıdır.
- B) Günahlardan kaçınmak gerekir.
- C) Manevi temizliğe önem verilmelidir.
- D) Maddi temizlik ihmal edilmemelidir.

9. Aşağıdaki ayetlerden hangisi hem maddi hemde manevi temizlik ile ilgilidir?

- A) “... Namaz, hayâsızlıktan ve kötülüklerden alıkoyar...” (Ankebût suresi, 45. ayet)
- B) “Ey İman edenler! Namaza kalktığınız zaman yüzlerinizi, dirseklerinize kadar ellerinizi yıkayın...” (Maide suresi, 6. ayet)
- C) “Ey iman edenler! İçki, kumar, dikili taşlar ve fal okları ancak, şeytan işi birer pisliktir. Onlardan kaçının ki kurtuluşa eresiniz. (Maide suresi, 90. ayet)
- D) “Ey Rabbimiz!...Tövbemizi kabul et. Çünkü sen, tövbeleri çok kabul edensin, çok merhametli olansın.” (Bakara suresi, 128. ayet)

10. **Abdest alan bir kişi aşağıdakilerden hangisini terk ederse yeniden abdest alması gerekmez?**

- A) Ağzını yıkamayı
- B) Yüzünü yıkamayı
- C) Başını mesh etmeyi
- D) Ayaklarını yıkamayı

11. Su bulunmadığı zaman teyemmüm etmek İslam’ın insanlara sağladığı bir kolaylıktır.

Bu durum aşağıdaki ayetlerin hangisi ile ilişkilendirilebilir?

- A) “...Eğer cünüp oldunuz ise boy abdesti alın...” (Mâide suresi, 6. ayet)
- B) “... (Allah) Her şeyi yaratıp bir ölçüye göre düzen vermiştir.” (Furkân suresi, 2. ayet)
- C) “... Allah sizin için kolaylık ister. Güçlük istemez...” (Bakara suresi, 185. ayet)
- D) “... Kuşkusuz Allah, tövbe edenleri ve temizlenenleri sever.” (Bakara suresi, 222. ayet)

12. Aşağıdakilerden hangisi İslam öncesi Arap toplumunun sosyal ve ahlaki yapısında görülmez?

- A) Kız çocuğu sahibi olmak utanç vesilesiydi.
- B) İnsanlar hürler ve köleler olmak üzere iki sınıfa ayrılmıştı.
- C) Toplum edebiyat ve sanattan çok uzak yaşıyordu.
- D) Köleler ve yoksullar eziliyor hakları verilmiyordu.

13. Hz. Muhammed (sav.)’in ticari kabiliyetinin gelişmesinde aşağıdakilerden hangisinin katkısından bahsedilemez?

- A) Eşi Hz. Hatice
- B) Babası Abdullah
- C) Amcası Ebu Talip
- D) Amcası Hz. Abbas

14. Hz. Muhammed (sav.)’in çocuklarından hangisi kendisinden sonra vefat etmiştir?

- A) İbrahim
- B) Kasım
- C) Zeynep
- D) Fatıma

1. OTURUM

15. İlk gelen vahiyden sonra Hz. Muhammed (sav.)'e bir süre vahiy gelmemiştir.

Bu dönem aşağıdakilerden hangisiyle isimlendirilmiştir?

- A) Senetü'l Hüzün
B) Fetretü'l Vahiy
C) Senetü'l Vufüd
D) Hılfu'l-Fudül

16. Mekke'den Medine'ye hicret eden Müslümanlar aşağıdakilerden hangisi ile isimlendirilmiştir?

- A) Ensar
B) Mülteci
C) Muhacir
D) Göçmen

17. Aşağıdakilerden hangisi Mekke Dönemi'nde indirilen ayetlerin genel özelliklerinden biri değildir?

- A) Tevhit inancına yer verilmesi
B) Ahiret inancına vurgu yapılması
C) Peygamber kıssalarına değinilmesi
D) Toplumsal düzenlemelere yer verilmesi

18.

Tanımlar	Kavramlar
<ul style="list-style-type: none">• Kur'an'ı meydana getiren cümlelerdir.• Kur'an'ın yirmişer sayfalık bölümleridir.• Kur'an'ın kitap haline getirilmiş şeklidir.	<ul style="list-style-type: none">• Mushaf• Sure• Ayet• Cüz

Tabloda tanımlar ve kavramlar eşleştirildiğinde hangi kavram dışarda kalır?

- A) Sure
B) Ayet
C) Cüz
D) Mushaf

19. Kur'an-ı Kerim'i, harflerinin çıkış yerlerine uygun olarak hatasız biçimde okumayı öğreten ilme ne denir?

- A) Akaid
B) Hadis
C) Tecvit
D) Tefsir

20. Cumhuriyet Dönemi'nde ilk meal çalışması yapan ilim adamı aşağıdakilerden hangisidir?

- A) Elmalılı Muhammed Hamdi Yazır
B) Mehmet Rifat Börekçi
C) Mehmet Akif Ersoy
D) Hasan Basri Çantay

(112) DİN KÜL. AHL. BİL. – 2

1. Aşağıdakilerden hangisi sanatsal bir değeri ifade eder?

- A) İyi
B) Kötü
C) Helal
D) Güzel

2. Bir toplumda, eskiden beri uygulana gelen, nesilden nesile iletilen kültürel değer, bilgi, alışkanlık, töre ve davranışlara denir.

Verilen tanım aşağıdakilerden hangisine aittir?

- A) Örf
B) Din
C) Ahlak
D) Değer

3. Tarih boyunca her toplumun kendine özgü inançları olmuştur. Dini yaşantısı olan toplumların muhakkak bir de ahlak anlayışları olduğu görülür.

Bu metinde aşağıdaki ilişkilerden hangisi vurgulanmaktadır?

- A) Din ve örf
B) Din ve siyaset
C) Din ve tarih
D) Din ve toplum

4. "Ey iman edenler! Yapmayacağınız şeyleri niçin söylüyorsunuz. Yapmayacağınız şeyleri söylemeniz, Allah katında büyük bir nefretle karşılanır." (Saff suresi, 2-3. ayetler)

Bu ayette aşağıdaki davranışların hangisi kınanmaktadır?

- A) Dedikodu yapılması
B) Toplum içinde fitne çıkarılması
C) Söz ile davranışların uyuşmaması
D) Verilen görevin yerine getirilmemesi

5. "Bastığın yerleri 'toprak!' diyerek geçme, tanı: Düşün altında birlerce kefensiz yatanı."

Bu iki mısradan aşağıdakilerden hangisinin önemine işaret edilmektedir?

- A) Din
B) Vatan
C) Bayrak
D) Özgürlük

6. Bayrak ve milli marş aşağıdakilerden hangisinin sembolüdür?

- A) Kahramanlığın
B) Medeniyetin
C) Bağımsızlığın
D) Laikliğin

7. Aşağıdaki davranışlardan hangisi insan hakları kapsamında değerlendirilemez?

- A) İnanıldığı dini özgürce yaşamak
B) İstedığı yere seyahat edebilmek
C) Özgür bir şekilde düşüncelerini açıklamak
D) Kendi haklarını başkalarından üstün tutmak

8. Aşağıdaki ayetlerden hangisinde inanç özgürlüğüne vurgu yapılmamıştır?

- A) "Ve de ki; Hak, Rabb'inizdendir. Öyle ise dileyen iman etsin, dileyen inkâr etsin..." (Kehf suresi, 29. ayet)
B) "Gerçekten insan için kendi çalışmasının karşılığında başka bir şey yoktur." (Necm suresi, 39. ayet)
C) "Dinde zorlama yoktur. Artık doğruluk ile eğrilik birbirinden ayrılmıştır..." (Bakara suresi, 256. ayet)
D) "Şüphesiz biz ona (doğru) yolu gösterdik. İster şükredici olsun ister nankör." (İnsan suresi, 3. ayet)

9. Laik bir devlette aşağıdakilerden hangisi görülmez?

- A) Din ve inanç hürriyetinin güvence altında olması
B) Dinin istismar edilmesine müsaade edilmemesi
C) Herkesin kanunlar önünde eşit olması
D) Bir din ve mezhebin ön plana çıkarılması

1. OTURUM

10. "Din ve mezhep herkesin vicdanına kalmış bir iştir. Hiç kimse hiç kimseyi ne bir din ne de bir mezhebi kabul etmeye zorlayamaz..."

Atatürk bu sözlerle aşağıdakilerden hangisine karşı olduğunu belirtmiştir?

- A) Bir dine inanılmasına
B) Mezheplerin varlığına
C) İnanca baskı yapılmasına
D) Vicdanların özgür bırakılmasına

11. **Aşağıdaki ayetlerden hangisi dinin istismar edilmesi ile ilişkilendirilebilir?**

- A) "... Allah'ın ayetlerini az bir karşılık ile satmayın..." (Bakara suresi, 41. ayet)
B) "İşte bunlar Allah'ın ayetleridir. Biz onları sana doğru olarak anlatıyoruz..." (Bakara suresi, 252. ayet)
C) "Size ayetlerim okunurdu da siz onları yalanladınız değil mi?" (Mü'minün suresi, 105. ayet)
D) "Kendilerine, O çok esirgeyici Allah'tan hiçbir yeni öğüt gelmez ki, ondan yüz çevirmesinler." (Şuarâ suresi, 5. ayet)

12. **Laiklik ilkesi Anayasa'ya aşağıdaki tarihlerden hangisinde girmiştir?**

- A) 1933 B) 1935
C) 1937 D) 1939

13. **Aşağıdakilerden hangisi Atatürk'ün taassup ile ilgili düşüncelerinden biridir?**

- A) Taassup laiklik anlayışıyla bağdaşmaz.
B) Dini konularda taassup sahibi olmak gerekir.
C) Taassubun kaynağı dindir.
D) Hoşgörü ortamı taassubu geliştirir.

14. **Aşağıdakilerden hangisi Gök Tanrı inancının temel özelliklerinden biri değildir?**

- A) Tanrı bir ve tek olandır.
B) Her şeyi yaratan, yaşatan ve koruyan Tanrıdır.
C) Dünya hayatından sonra sonsuz bir hayat vardır.
D) Tanrı bazı insanların bedenlerinde şekillenmiştir.

15. **Aşağıdakilerden hangisi Müslüman Türk Devletleri arasında yer almaz?**

- A) Emeviler
B) Gazneliler
C) İtil Volga Bulgar Devleti
D) Anadolu Selçuklu Devleti

16. • 699 yılında Kufe'de doğmuştur.
• Fıkh-ı Ekber ve El-Âlim ve'l-Müteallim isimli eserleri mevcuttur.
• İmam Ebu Yusuf, İmam Muhammed ve İmam Züfer yetiştirdiği öğrencileridir.

Hakkında bilgi verilen İslam âlimi aşağıdakilerden hangisidir?

- A) İmam Şafii
B) İmam Eş'ari
C) İmam Maturidi
D) İmam Ebu Hanife

17. **"Zarurât-i Hamse" olarak adlandırılan İslam dininin korunmasını istediği esaslar arasında aşağıdakilerden hangisi yer almaz?**

- A) Örf B) Can
C) Mal D) Namus

18.

	Eser	Yazar
I	Divan-ı Hikmet	Ahmet Yesevî
II	Makalât	Hacı Beştaş-ı Veli
III	Kanun fit-Tıp	İbn Sina
IV	Mesnevi	Ahî Evran

Tablodaki eşleştirmelerden hangisi yanlıştır?

- A) I B) II C) III D) IV

19. **Bayramilik Tarikatı'nın kurucusu aşağıdakilerden hangisidir?**

- A) Ahi Evran
B) Hacı Bektaş-ı Veli
C) Hacı Bayram-ı Veli
D) Hoca Ahmet Yesevi

20. Hz. Muhammed (sav.), Medine'ye hicret ettikten sonra oradaki farklı inanç gruplarıyla ve kabilelerle anlaşarak inanç hürriyeti, ticaret yapma serbestliği gibi temel insani haklarını güvence altına almıştır.

Bu olay aşağıdakilerden hangisi ile isimlendirilmiştir?

- A) Hudeybiye Antlaşması
B) Medine Sözleşmesi
C) Veda Hutbesi
D) Akabe Biatları

(115) DİN KÜL. AHL. BİL. – 5

1. **Allah'ın, sonsuz ilim ve kudretiyle başlangıçtan sonsuza kadar olmuş ve olacak tüm olayların yerini ve zamanını bilip takdir ettiğine inanan bir Müslüman, aşağıdakilerden hangisine iman etmiş olur?**

- A) Ahirete B) Kadere
C) Kitaplara D) Meleklerle

2. Allah, insanları iyiliği ve kötülüğü seçip-seçmeme konusunda özgür bırakmıştır. Akıllı olan insan, iyiyi ve kötüyü iradesiyle seçebilen; yaptığı seçimden dolayı de sorumlu tutulan bir varlıktır.

Verilen açıklamaya göre aşağıdakilerden hangisi söylenebilir?

- A) Akıllı ve özgür olan insan tercihlerinden sorumludur.
B) Özgür bırakılan insan her istediğini yapabilme hakkına sahiptir.
C) Akıllı olmayan insan da yaptıklarından sorumludur.
D) Baskı ve zorlama altında yaptığımız şeylerden de sorumluyuz.

1. OTURUM

3. Aşağıda verilen ayetlerden hangisi tercihlerimizin sorumluluğunun bize ait olduğunu göstermez?

- A) "Kim hidayet yolunu seçerse, bunu ancak kendi iyiliği için seçmiş olur; kim de doğruluktan ayrılırsa kendine zarar vermiş olur. Hiçbir günahkâr başkasının günah yükünü üstlenmez." (İsrâ suresi, 15. ayet)
- B) "Başınıza gelen herhangi bir felaket (olumsuzluk), kendi elinizle işledikleriniz yüzündendir..." (Şûra suresi, 30. ayet)
- C) "Allah, her şahsı, ancak gücünün yettiği ölçüde sorumlu kılar. Herkesin kazandığı hayır kendine, yapacağı kötülük de kendinedir..." (Bakara suresi, 286. ayet)
- D) "Yeryüzünde bulunan her canlı yok olacak. Ancak azamet ve ikram sahibi Rabb'inin zatı baki kalacaktır." (Rahman suresi, 27. ayet)

4. "Biz gökleri, yeri ve ikisi arasındakileri ancak hak ile ve belirli bir süre (ecel) için yarattık." (Ahkâf suresi, 3. ayet)

Verilen ayetten aşağıdakilerden hangisi çıkarılabilir?

- A) Dünyada yaptıklarımızdan ahirette hesaba çekileceğimiz
- B) Kıyametin ne zaman ve nasıl gerçekleşeceği
- C) Yaratılan her varlığın bir sonunun olduğu
- D) Dünyadaki tertip ve düzenin nasıl olduğu

5. Aşağıdakilerden hangisi doğal afetler karşısında insanın alması gereken tedbirlerden biri değildir?

- A) Akarsu yataklarına ev yapmak
- B) Binalarda kaliteli malzeme kullanmak
- C) Fay hattı üzerine yerleşim yerleri yapmamak
- D) Ormanlık alanlarda yanıcı maddeler kullanmamak

6. Aşağıdaki ifadelerden hangisi rızık konusuna İslami bir bakış açısıdır?

- A) Rızık Allah tarafından takdir edildiğine göre çalışmanın bir anlamı yoktur.
- B) Rızık varsa bir gün mutlaka beni bulur.
- C) Allah, yarattığı kulunu aç bırakmaz, benim de rızıkımı verir, gayrete gerek yoktur.
- D) Allah'ın takdir ettiği rızıkı helal yoldan çalışıp elde etmek gerekir.

7. Tevekkül anlayışını doğru kavramış bir kişiden aşağıdaki davranışlardan hangisini yapması beklenmez?

- A) Hasta olduğunda yalnızca dua edip şifa beklemek
- B) Yola çıkmadan önce aracına bakım yaptırmak
- C) Derslerine planlı ve zamanında çalışmak
- D) Dengeli ve düzenli beslenmek

8. Yapılan ibadetlerin, amacına ulaşabilmesi için aşağıdakilerden hangisi gerekli değildir?

- A) İstekli olmak
- B) Samimi olmak
- C) Zengin olmak
- D) Gösterişten uzak olmak

9. Bir iyiliği veya ibadeti Allah'ın rızasını kazanmak için değil, insanların beğenisini kazanmak için yapmaya - - - - - denir.

Boş bırakılan yere aşağıdakilerden hangisi getirilmelidir?

- A) İhsan
- B) İhlas
- C) Riya
- D) Samimiyet

10. Aşağıdakilerden hangisi İslam dininin ibadetlerde sağladığı kolaylıklardan biri değildir?

- A) Hasta ve yolcuların ramazan orucunu erteleyebilmeleri
- B) Yolcuların dört rekâtlik namazlarını iki rekât olarak kılabilmesi
- C) Suyun bulunmadığı ortamlarda teyemmümlle abdest alınabilmesi
- D) Hasta ve yaşlıların namazlarını erteleyebilmeleri

11. Aşağıdakilerden hangisi ibadetlerin faydalarından biri değildir?

- A) Kötülüklerden alıkoyar.
- B) Sorumluluk duygusunu azaltır.
- C) Yaratıcı ile ilişkiyi güçlendirir.
- D) Güzel ahlakın gelişmesini sağlar.

12. "(Rabb'imiz!) Yalnız sana ibadet ederiz ve yalnız senden yardım dileriz." (Fatiha suresi, 5. ayet)

Yukarıda verilen ayet, ibadetlerin yapılış amaçlarından hangisini vurgulamaktadır?

- A) Cennet arzusu
- B) Yalnızca Allah için
- C) Cehennem korkusu
- D) Dünyalık nimetlere ulaşma

13. Peygamber Efendimizin ismi söylendikten sonra ona olan saygı ve sevgimizi ifade etmek için aşağıdakilerden hangisi söylenir?

- A) Rabbenâ lekel hamd
- B) Sübhâne rabbiyel azîm
- C) Semiallâhu limen hamide
- D) Sallelâhu aleyhi ve sellem

14. Kur'an'ın örnek insan olarak nitelendirdiği ahlâklı bir kişi aşağıdakilerden hangisini yapmaz?

- A) Akrabalarıyla ilişkisini keser.
- B) Ana-babasına iyi davranır.
- C) Daima doğruyu söyler.
- D) Verdiği sözde durur.

15. "Gerçekten müminler kurtuluşa ermişlerdir; onlar ki, namazlarında huşu içindedirler, onlar ki, boş ve yararsız şeylerden yüz çevirirler; onlar ki, zekâtı verirler ve onlar ki, iffetlerini korurlar." (Mü'minün suresi, 1-5. ayetler)

Verilen ayetlerde aşağıdakilerden hangisine değilinmemiştir?

- A) İffet ve namusu korumak
- B) Verilen sözleri yerine getirmek
- C) Namazları samimiyetle kılmak
- D) Boş ve faydasız işlerden kaçınmak

1. OTURUM

(121) FELSEFE – 1

16. Peygamber Efendimizi örnek almanın doğru şekli aşağıdaki-lerden hangisidir?

- A) Onun gibi giyinmek
- B) Hadislerini ezberlemek
- C) Onu sevdiğini söylemek
- D) Sünnetini anlamak ve uygulamak

17. “Müslüman, elinden ve dilinden başkalarının zarar görmediği kimsedir.”

Yukarıda verilen hadis-i şerifte, İslam’ın ahlaki prensiplerinden hangisi vurgulanmaktadır?

- A) Hayır yapma
- B) Kararlılık olma
- C) Güvenilir olma
- D) Misafire ikram etme

18. İnsan, içinde yaşadığı toplumdan etkilenir. Kişinin görüş ve düşünceleri, yaşadığı toplumun değerlerine, örf, adet, gelenek ve göreneklerine göre şekillenir.

Yukarıdaki metinden, İslam düşüncesinde yorum farklılıklarının oluşmasında etkili olan sebeplerden hangisi çıkarılabilir?

- A) Siyasi sebepler
- B) Coğrafi sebepler
- C) Sosyal ve kültürel sebepler
- D) Dini metinlerden kaynaklanan sebepler

19. Aşağıdakilerden hangisi Siyasi-İtikadi Mezheplerden biri değildir?

- A) Maturidilik
- B) Hanbelilik
- C) Haricilik
- D) Eş’arilik

20. Aşağıdakilerden hangisi tüm mezheplerin üzerinde birleştiği İslam’ın temel unsurlarından biri değildir?

- A) Allah’ın birliği
- B) Peygamberlerin varlığı
- C) Mehdi inancı
- D) Kur’an-ı Kerim

1. Felsefede sorular cevaplardan daha önemlidir. Her cevap bir sonraki soruya zemin hazırlamaktadır. Felsefenin günümüze kadar gelmesinde soruların önemli olması felsefenin hangi özelliğinden kaynaklanmaktadır?

- A) Öznelliğinden
- B) Akla dayalı olmasından
- C) Arayış içinde olmasından
- D) Birleştirici ve bütüleştirici olmasından

2. Felsefe disiplinlerine ait sorulardan hangisi yanlış verilmiştir?

- A) Varlık felsefesi → Varlık var mıdır?
- B) Bilgi felsefesi → Bilgi nedir?
- C) Ahlak felsefesi → İyi nedir?
- D) Siyaset felsefesi → Güzel nedir?

3. Aşağıdakilerden hangisi felsefe ve dinin ortak amaçlarındandır?

- A) Evreni ve insanı anlama
- B) İlahi bilgileri insanlara iletme
- C) Kesin sonuçlara ulaşma
- D) Doğa yasalarını açıklama

4. Bilgi felsefesi, bilgi üzerine sorular soran felsefe dalıdır.

Aşağıdakilerden hangisi bilgi felsefesine ait bir soru değildir?

- A) Bilginin kaynağı nedir?
- B) Bilgimiz kesin midir?
- C) Varlığın kökeni nedir?
- D) Doğru bilginin ölçütü nedir?

5. Sofistlere göre, “İnsan her şeyin ölçüsüdür, doğrular kişiden kişiye değişir.”

Bu görüşe uygun yargı aşağıdakilerden hangisidir?

- A) Genel geçer doğru bilgi yoktur.
- B) Sezgi doğru bilgiye ulaşmada araçtır.
- C) Bilginin kaynağı akıldır.
- D) Kesin bilgiye ulaşılabilir.

6. Doğru bilginin kaynağının “akıl” olduğunu savunan görüş aşağıdakilerden hangisidir?

- A) Empirizm
- B) Rasyonalizm
- C) Pozitivizm
- D) Analitik felsefe

7. Açıktan doğru bilgiye ulaşmada şüpheyi yöntem olarak kullanan ve bunu “Düşünüyorum öyleyse varım.” önermesiyle ifade eden rasyonalist filozof aşağıdakilerden hangisidir?

- A) John Locke
- B) Descartes
- C) David Hume
- D) Auguste Comte

8. “İnsan zihni dünyaya boş bir levha olarak gelir. Tüm bilgilerimizin kaynağı deney ve alışkanlıklardır.”

Locke, bu düşüncesiyle aşağıdaki yargılardan hangisini destekler?

- A) Bilginin kaynağı akıldır.
- B) Doğru bilgiye ulaşamaz.
- C) Doğuştan bilgiler yoktur.
- D) Sezgiye dayanan bilgi doğru bilgidir.

9. “Fenomenoloji”nin kelime anlamı aşağıdakilerden hangisidir?

- A) Akılcılık
- B) Olguculuk
- C) Eleştirelilik
- D) Görüngübilim

10. Faydacılık felsefe akımının temel düşüncesi aşağıdakilerden hangisidir?

- A) Doğru bilgiye akılla ulaşılır.
- B) Her türlü bilgiden şüphe edilmelidir.
- C) Yararlı olan doğrudur, doğru olan yararlıdır.
- D) Deneye dayanmayan bilgiler doğru değildir.

11. İbni Sina “Kanun fi’t tıp” adlı eserine aşağıdaki alanlardan hangisinde çalışmalar yapmıştır?

- A) Coğrafya
- B) Astronomi
- C) Tarih
- D) Tıp

1. OTURUM

12. • Bilim bir üründür.
• Bilim bir etkinliktir.

Verilenler bilim felsefesinin hangi sorusuna verilmiş yanıtlardır?

- A) Bilim nedir?
B) Bilimsel yöntem nedir?
C) Bilimin değeri nedir?
D) Bilimsel bilginin özellikleri nelerdir?

13. **Herhangi bir bilim dalında yapılan tüm etkinliklerin düzenli ve tutarlı hâle gelmesini sağlayan, belirli bir gerçekliğin algılanmasını ve açıklanmasını mümkün kılan “kavramsal çerçeve” aşağıdakilerden hangisiyle ifade edilir?**

- A) Determinizm
B) Paradigma
C) Öndeyi
D) Deney

14. Bilim adamı kendi kişisel görüş, alışkanlık ve yargılarını araştırmalarına yansıtmemalıdır.

Bu durum bilimsel bilginin hangi özelliğini vurgulamaktadır?

- A) Olgusal olmasını
B) Evrenselliğini
C) Objektif olmasını
D) Yöntemsel olmasını

15. Olguların saptanması, gözlem, hipotez, deney, kuram

Verilenler aşağıdakilerden hangisinin aşamalarıdır?

- A) Bilimsel yöntemin
B) Bilgi türlerinin
C) Metafizik problemlerin
D) Sanat felsefesinin

16. “Bilim gerçek dünya hakkında araştırma yapma etkinliğidir. Dünyadaki gerçekliğin tek bir bilimi olabilir. Konu alanı dar olan bilimler, konu alanı geniş kapsamlı olan bilimlerle birleştirilebilir.” **düşüncesi aşağıdakilerden hangisine aittir?**

- A) Pragmatizm görüşüne
B) Rasyonalizm görüşüne
C) Bilginin kaynağı problemine
D) Bilim felsefesinde klasik görüşe

17. **Aşağıdakilerden hangisi varlık felsefesinin sorularından değildir?**

- A) Bilginin kaynağı nedir?
B) Varlığın ana maddesi nedir?
C) Varlık var mıdır?
D) Varlık bir midir?

18. **Varlık felsefesinde “hiçbir şeyin olmadığını” savunan görüş aşağıdakilerden hangisidir?**

- A) Realizm
B) Nihilizm
C) İdealizm
D) Materyalizm

19. Varlıkları mümkün varlık ve zorunlu varlık olarak ikiye ayırır. Zorunlu varlık Allah’tır, mümkün varlık ise varlığı Allah’a bağlı olan tüm varlıklardır.

Görüşleri verilen filozof aşağıdakilerden hangisidir?

- A) Demokritos
B) La Mettrie
C) Hobbes
D) Farabi

20. **Descartes’e göre, varlığı meydana getiren cevherlerden “ruh” un fonksiyonu nedir?**

- A) Somut olma
B) Düşünme
C) Yer kaplama
D) Görülebilir olma

(123) SEÇMELİ FELSEFE – 1

1. **Aşağıdakilerden hangisi felsefenin doğrudan incelediği konulardan değildir?**

- A) Varlık
B) Sanat
C) Bilgi
D) Tarihsel süreçte toplumların gelişimi

2. **Bilginin kaynağını, ilkelerini, yöntemini araştıran felsefe dalı aşağıdakilerden hangisidir?**

- A) Ahlak felsefesi
B) Bilgi felsefesi
C) Varlık felsefesi
D) Siyaset felsefesi

3. **Her felsefe disiplininin ele aldığı konu insanın bir özelliğine tekabül eder. Felsefe disiplini ve karşılık geldiği insani özellik aşağıdakilerden hangisinde yanlış verilmiştir?**

	<u>Felsefe Disiplini</u>	<u>İnsani Özellik</u>
A)	Din Felsefesi	Konuşmak
B)	Tarih Felsefesi	Hatırlamak
C)	Bilgi Felsefesi	Bilmek
D)	Sanat Felsefesi	Duygulanmak

4. **Aşağıdakilerden hangisi felsefe ile bilimin ortak özelliklerinden değildir?**

- A) Doğruya ulaşma amacıyla olmak
B) Akıl ve mantık ilkelerine bağlı kalmak
C) Deney yaparak kesin sonuçlara ulaşmak
D) Hazır bilgilerle yetinmemek

5. **Aşağıdakilerden hangisi bilgi kuramının temel kavramlarından değildir?**

- A) Temellendirme
B) Özgürlük
C) Erdem
D) Güzel

1. OTURUM

6. Şüpheyi amaç edinen Pyrrhon'a göre bilginin kaynağı duyumlardır. Duyumlar ise öznel olduğundan kişiden kişiye farklılık gösterir. Öznel duyumlardan hareketle, nesnel bir gerçekliğin bilgisine varılamaz.

Buna göre aşağıdakilerden hangisi Pyrrhon'un düşüncesine uygundur?

- A) Bilginin kaynağı sezgidir.
- B) Akıl yoluyla doğru bilgiye ulaşılır.
- C) Doğru bilgiye ulaşmak mümkün değildir.
- D) Kişiden kişiye değişmeyen bilgiye ulaşmak mümkündür.

7. Doğru bilginin ölçütlerine "empirizm" felsefi yaklaşımının verdiği cevap aşağıdakilerden hangisidir?

- A) Akla dayanan bilgi doğrudur.
- B) Sezgiye dayanan bilgi doğrudur.
- C) Fayda sağlayan bilgi doğrudur.
- D) Deneye dayanan bilgi doğrudur.

8. Aşağıdakilerden hangisi Rasyonalist bir filozoftur?

- A) Farabi
- B) John Locke
- C) David Hume
- D) Auguste Comte

9. Kant, doğru bilgiye ulaşmada akıl ve deneyin bir arada bulunması gerektiğini, tek başına aklın veya deneyin yetersiz olduğunu ifade etmiştir.

Buna göre Kant'ın savunduğu düşünce akımı aşağıdakilerden hangisidir?

- A) Olguculuk
- B) Eleştircilik
- C) Faydacılık
- D) Deneycilik

10. Pozitivist düşünür Auguste Comte'a göre insanlar, pozitif evrede olayları aşağıdakilerden hangisine dayanarak açıklar?

- A) Gizil güçlere
- B) İlahi kaynaklara
- C) Deney ve gözlemlere
- D) Kutsal sayılan varlıklara

11. Bilim felsefesinin konusu aşağıdakilerden hangisidir?

- A) Varlık
- B) Bilim
- C) Estetik
- D) Bilgi

12. Aşağıdakilerden hangisi Rönesans döneminin özelliklerinden değildir?

- A) İnsan aklı ön plana çıkmıştır.
- B) Bireycilik anlayışı gelişmiştir.
- C) Bilim, din ve felsefenin etkisine girmiştir.
- D) Hümanizm anlayışı hakim olmaya başlamıştır.

13. Bilimsel bilginin uygulama alanı aşağıdakilerden hangisidir?

- A) Teknoloji
- B) Din
- C) Felsefe
- D) Metafizik

14. Carnap'a göre doğruluğu ve yanlışlığı sınınamayan önermeler anlamsız metafizik önermelerdir.

Buna göre aşağıdakilerden hangisi anlamsız önermedir?

- A) Tüm metaller ısınınca genişler.
- B) Bugün hava yağışlıdır.
- C) Ruh ölümsüzdür.
- D) Kar beyazdır.

15. Bilimsel bir çalışmanın gelişmesi güzel değil, bir yol izlenerek yapılması bilimsel bilginin hangi özelliğinden kaynaklanmaktadır?

- A) Olgusallığı
- B) Tutarlılığı
- C) Eleştirciliği
- D) Geçerli yöntemle elde edilmesi

16. Bilim, döneminin değerlerinden, inançlarından bağımsız değildir. Bilim adamlarını yaşadığı toplumun inançları, değerleri ve kültürel değişimleri etkilemektedir.

Görüşleri verilen yaklaşım aşağıdakilerden hangisine aittir?

- A) Mantıkçı pozitivism
- B) Etkinlik olarak bilim
- C) Ürün olarak bilim
- D) Klasik görüş

17. Olgulararası ilişkilerden, bilimsel açıklamalardan yararlanarak olmamış bir olayı önceden kestirme bilimlerin aşağıda verilen hangi özelliğinden kaynaklanmaktadır?

- A) Nesnel olma
- B) Objektif olma
- C) Olgusal olma
- D) Öndeyide bulunma

18. Evrende değişmeyen hiçbir şey olmadığını savunan Herakletios bu değişimi "Aynı ırmakta iki kez yıkanamazsınız" sözüyle dile getirir.

Herakletios'un bu düşüncesi aşağıdakilerden hangisine uygunluk gösterir?

- A) Varlık düşüncedir.
- B) Varlık oluşturmaktır.
- C) Varlık maddedir.
- D) Varlık ideadır.

19. Evreni nesnel ve idealar dünyası olarak ayıran, idealar dünyasını ise öncesiz, sonsuz kalıcı varlıklar olarak gören filozof aşağıdakilerden hangisidir?

- A) Demokritos
- B) Hobbes
- C) Descartes
- D) Platon

20. I. Ruh
II. Madde
III. Hava
IV. Ateş

Descartes'in öne sürdüğü birbirinden farklı iki töz verilenlerden hangisidir?

- A) I ve II
- B) I ve III
- C) II ve III
- D) II ve IV

1. OTURUM

1. İslamiyetten önce Kuzey Afrika ülkelerinden olan Mısır, Libya ve Tunus'u işgal eden devlet, aşağıdakilerden hangisidir?

- A) Sasani Devleti
B) Habeşistan Krallığı
C) Bizans İmparatorluğu
D) Batı Roma İmparatorluğu

2. Müslüman Araplar, bugünkü aşağıdaki hangi ülkeye "Endülüs" ismini vermişlerdir?

- A) İspanya B) İngiltere
C) İsviçre D) İtalya

3. İslamiyet, Arap Yarımadası'nın hangi bölgesinde ortaya çıkmıştır?

- A) Hicaz B) Necit
C) Yemen D) Hadramut

4. Aşağıdakilerden hangisi Bedir Savaşı'nın sonuçlarından biri değildir?

- A) İslam tarihinin ilk askerî başarısı olması
B) Şam ticaret yolunun güvenliğinin sağlanması
C) Müslümanların bir güç olarak ortaya çıkması
D) Ekonomik yönden Müslümanların güçlenmesi

5. Yalancı peygamberlerle mücadele eden halife, aşağıdakilerden hangisidir?

- A) Hz. Ali B) Hz. Ömer
C) Hz. Osman D) Hz. Ebu Bekir

6. İslam tarihinde meydana gelen aşağıdaki savaşlardan hangisi İran'ın fethi amacıyla yapılmıştır?

- A) Sıffin Savaşı
B) Köprü Savaşı
C) Celula Savaşı
D) Nihavent Savaşı

7. Hz. Ömer Dönemi'nde fetihler hız kazanmış; Mısır, Suriye, Irak ve İran fethedilmiştir.

Bu durumun İslam Devleti'nde hangi bakımdan değişikliğe neden olduğu iddia edilemez?

- A) Ekonomik B) Kültürel
C) Sosyal D) Dinî

8. Talas Savaşı, aşağıdaki devletlerden hangileri arasında meydana gelmiştir?

- A) Emevi - Çin
B) Abbasi - Çin
C) Gazneli - Karahanlı
D) Büyük Selçuklu - Bizans

9. Aşağıdakilerden hangisi İslamiyet'in Türkler üzerinde meydana getirdiği değişime örnektir?

- A) Hukuk sisteminde şer'i kuralların yer alması
B) Devletin hanedan üyelerinin ortak malı sayılması
C) Hükümdarın yönetme yetkisini tanrıdan aldığına inanılması
D) Orduda ve Türkmenler arasında Türkçe konuşulup yazılması

10. Büyük Selçuklu Devleti'ni kuranlar, aşağıdaki Türk topluluklarından hangisidir?

- A) Avarlar B) Gurlular
C) Oğuzlar D) Hazarlar

11. Aşağıdaki eserlerden hangisi İslami Türk edebiyatının sözlü ürünlerindedir?

- A) Divan-ı Hikmet
B) Atabet'ül Hakayık
C) Divan-ı Lügat-it Türk
D) Satuk Buğra Han Destanı

12. Aşağıdaki devletlerden hangisi Büyük Selçuklu Devleti ile çağdaş değildir?

- A) Emeviler
B) Gazneliler
C) Karahanlılar
D) Harzemşahlar

13. Büyük Selçuklu Devleti'nin Bizans'a karşı kazandığı ilk büyük zafer, aşağıdakilerden hangisidir?

- A) Ankara B) Pasinler
C) Malazgirt D) Dandanakan

14. Aşağıdakilerden hangisi Haçlı Seferleri'nin sonuçlarından biri değildir?

- A) Akdeniz'de ticaret gelişti.
B) Din adamlarına olan güven sarsıldı.
C) Anadolu'nun kapıları Türklere açıldı.
D) Avrupalılar pusula, barut ve kâğıt yapımını Müslümanlardan öğrendi.

15. "Rasathane" kavramı, aşağıdaki hangi bilim dalının alanıyla ilgili bir terimdir?

- A) Kimya B) Kelam
C) Astronomi D) Matematik

16. I. Türkiye Selçukluları ile birlikte Eskişehir yakınlarında Haçlılara karşı mücadele ettiler.
II. Emir İshak Bey'in ölümünden sonra Erzincan ve Divriği olmak üzere iki kola ayrıldı.
III. Malabadi Köprüsü bu beylikten günümüze kalan mimari eserlerden biridir.
IV. Ahmet Gazi tarafından Sivas merkez olmak üzere 1080 yılında kuruldu.

Verilen bilgilerden hangileri Danişmentli Beyliği ile ilgilidir?

- A) Yalnız I B) II ve III
C) III ve IV D) I ve IV

1. OTURUM

(136) TARİH – 6

17. **Çaka Bey'in kızıyla evlenen Türkiye Selçuklu hükümdarları, aşağıdakilerden hangisidir?**

- A) I. Mesut
- B) I. Kılıç Arslan
- C) II. Kılıç Arslan
- D) I. Alâeddin Keykubat

18. **Aşağıdakilerden hangisi Anadolu'nun kesinlikle Türk yurdu olmasını sağlamıştır?**

- A) Miryokefalon Savaşı'nın kazanılması
- B) Türkiye Selçuklu Devleti'nin kurulması
- C) Malazgirt Savaşı'nda Bizans'ın yenilmesi
- D) Kutsal emanetlerin Mısır'dan İstanbul'a getirilmesi

19. **Selçuklularda aşağıdaki hangi arazinin gelirleri hükümdara bırakılırdı?**

- A) İktâ arazi
- B) Has arazi
- C) Mülk arazi
- D) Vakıf arazisi

20. **Aşağıdaki mimari eser - şehir eşleştirmelerinden hangisi doğrudur?**

- A) I. İzzeddin Keykavus Darüşşifası - Erzurum
- B) Sırçalı Medrese - Kayseri
- C) Döner Kümbet - Konya
- D) Sultan Hanı - Aksaray

1. Emeviler Dönemi'nde Türklerle Araplar arasında iyi ilişkiler kurulamamıştır. Emevilerin başta Türkler olmak üzere diğer milletleri "mevali" yani köle olarak görmeleri ve adalardan uzak bir yönetim sergilemeleri Türkler arasında Emevilere karşı büyük bir nefret uyandırmıştır.

Verilen bu durumun aşağıdakilerden hangisine neden olduğu söylenebilir?

- A) Türklerin İslamiyet'i tanımalarını geciktirmiştir.
- B) Türkler arasında İslamiyet hızla yayılmıştır.
- C) İslam Devleti'nde Türkler "avasım" adı verilen sınır şehirlerine yerleştirilmişlerdir.
- D) Talas Savaşı'nda Türkler, Müslüman Araplara karşı düşmanca bir tutum takınmışlardır.

2. **İslam tarihinde, aşağıdaki hangi yıllar arası "Hülafa-i Raşidin Dönemi" olarak adlandırılır?**

- A) 571 - 622
- B) 632 - 661
- C) 1092 - 1118
- D) 1402 - 1413

3. **Batılı ülkelerde bir kişi için "Türk olmuş" denildiği zaman aslında o kişi için aşağıdakilerden hangisi söylenmek istenmektedir?**

- A) Hun olmuş
- B) Barbar olmuş
- C) Osmanlı olmuş
- D) Müslüman olmuş

4. **Aşağıdaki Tolunoğulları hükümdarlarından hangisinin zamanında Bedevilerden oluşan "Muhtare" adlı özel bir muhafız birliği kurulmuştur?**

- A) Harun
- B) Şeyban
- C) Humaraveyh
- D) Tolunoğlu Ahmet

5. **Aşağıdakilerden hangisi Tuğrul Bey Dönemi ile ilgili bir gelişme değildir?**

- A) Devlet merkezinin Nişabur'dan Rey'e taşınması
- B) İstanbul'un ilk kez Selçuklular tarafından kuşatılması
- C) Musa Yabgu'nun oğlu Hasan Bey'in Bizanslılarca şehit edilmesi
- D) Van Gölü'nden Trabzon'a kadar olan alanda Selçuklu hâkimiyetinin sağlanması

6. **Türklerin Hindistan'a yerleşmeleri, aşağıdaki Türk devletlerinden hangisi zamanında başlamıştır?**

- A) Gazneliler
- B) Karahanlılar
- C) Harzemşahlar
- D) Büyük Selçuklular

7. **Orta Asya'da kurulan ilk Müslüman Türk devleti, aşağıdakilerden hangisidir?**

- A) İhşidiler
- B) Karluklar
- C) Gazneliler
- D) Karahanlılar

8. **Dandanakan Savaşı, aşağıdaki devletlerden hangileri arasında yapılmıştır?**

- A) Harzemşah - Büyük Selçuklu
- B) Büyük Selçuklu - Gazneli
- C) Samanoğulları - Karahanlı
- D) Karahanlı - Gazneli

9. **Aşağıdaki saray görevlilerinden hangisi ilk Müslüman Türk devletlerinde bulunmaz?**

- A) İlbaş
- B) Tudun
- C) Taştardar
- D) Serhenk

10. **Ünlü şair Firdevsi, yazdığı "Şehname" adlı eserini, aşağıdaki Türk hükümdarlarından hangisine sunmuştur?**

- A) Sultan Alparslan'a
- B) Satuk Buğra Han'a
- C) Gazneli Mahmut'a
- D) Celaleddin Harzemşah'a

1. OTURUM

11. İbn-i Sina'nın aşağıdaki eserlerinden hangisi, Tokatlı Mustafa Bin Ahmet adlı bir doktor tarafından 18. yüzyılda Türkçeye çevrilmiştir?

- A) Eş-Şifa
- B) En-Necat
- C) Lisân-ül Arap
- D) El Kanun fi't - Tıp

12. Aşağıdaki devletlerden hangisinin kurucuları kendilerinin Hz. Fâtıma ve Hz. Ali yoluyla Hz. Peygamber'in soyundan geldiklerini iddia ederler?

- A) Fatımîler
- B) Samanîler
- C) Eyyubiler
- D) Memlûkler

13. Babür hükümdarı Şah Cihan'ın Agra şehrinde karısı Mümtaz Mahal için yaptırdığı ünlü mimari eserin adı, aşağıdakilerden hangisidir?

- A) Hümayun Türbesi
- B) Moti Mescidi
- C) Delhi Kalesi
- D) Tac Mahal

14. Türk - İslam sanatında ortaya çıkıp gelişen, silindirik ya da çokgen planlı bir gövde üzerine oturan konik veya piramidal bir külahtan oluşan mezar yapılarına ne ad verilir?

- A) Kümbet
- B) İmaret
- C) Nevbet
- D) Mabet

15. İlhanlıları 1260 yılında Ayn-ı Calûd Savaşı'nda yenen devlet, aşağıdakilerden hangisidir?

- A) Gazne
- B) Babür
- C) Memlûk
- D) Harzemşahlar

16. Aşağıdaki devletlerden hangisi Timur Devleti'nin hâkimiyetine son vermiştir?

- A) Fatımîler
- B) Eyyubiler
- C) Samanîler
- D) Şeybanîler

17. Günümüze kadar gelebilen Türkistan'daki minarelerin çoğu, aşağıdaki hangi devletten kalmadır?

- A) Karahanlı
- B) Selçuklu
- C) Gazne
- D) Uygur

18. 1258 yılında Moğollar, aşağıdaki şehirlerden hangisini yakıp yıkarak Abbasi Devleti'ne son vermişlerdir?

- A) İsfahan
- B) Buhara
- C) Bağdat
- D) Şam

19. Cengiz Han ölmeden önce, aşağıdaki oğullarından hangisinin hükümdar olmasını vasiyet etmiştir?

- A) Cuci
- B) Tuluy
- C) Çağatay
- D) Ögeday

20. Kurulduğu bölgeden dolayı Türkleşmeyen ve İslamiyet'i kabul etmeyen tek Moğol devleti, aşağıdakilerden hangisidir?

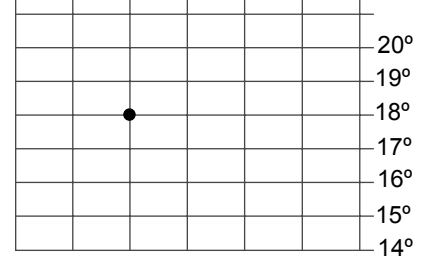
- A) İlhanlı Devleti
- B) Kubilay Hanlığı
- C) Çağatay Hanlığı
- D) Altın Orda Devleti

2. Alp, Himalaya ve And Dağları dünyadaki en önemli dağ kuşaklarıdır.

Bu dağların dağılış alanlarını incelemek isteyen bir öğrencinin, aşağıdaki harita türlerinin hangisinden yararlanması uygundur?

- A) Fiziki harita
- B) Beşeri harita
- C) Siyasi harita
- D) Ekonomi haritası

3. 23° 24° 25° 26° 27° 28°



Koordinat sistemi üzerinde (•) ile gösterilen merkezin konumu aşağıdakilerden hangisinde doğru verilmiştir?

- A) 14° Güney paraleli
23° Batı meridyeni
- B) 16° Kuzey paraleli
24° Doğu meridyeni
- C) 18° Kuzey paraleli
25° Doğu meridyeni
- D) 20° Güney paraleli
28° Batı meridyeni



Haritada verilen şehirlerden hangi ikisi arasında yerel saat farkı en azdır?

- A) İzmir - Yozgat
- B) Iğdır - Mardin
- C) Zonguldak - Mardin
- D) İzmir - Iğdır

(151) COĞRAFYA - 1

1. • Toprak
• Ana kaya
• Sıradağlar

Yukarıda verilenler hangi doğal ortamda yer almaktadır?

- A) Atmosfer
- B) Litosfer
- C) Hidrosfer
- D) Biyosfer

1. OTURUM

5. Aşağıdakilerden hangisi Dünya'nın yıllık hareketinin sonuçlarındandır?

- A) Gün içinde gölge yönünün değişmesi
- B) Ekvator'da sıcaklığın kutuplardan fazla olması
- C) Günlük sıcaklık farklarının oluşması
- D) Dünya'nın Güneş'e olan uzaklığının değişmesi

6. İklim olaylarının meydana gelmesinde aşağıdaki atmosfer katmanlarından hangisinin belirleyici etkisi daha fazladır?

- A) Troposfer
- B) Stratosfer
- C) Mezosfer
- D) Termosfer

7. Aşağıdaki ifadelerden hangisinde bir yerin iklimi ile ilgili bilgi verilmiştir?

- A) Yazlar sıcak ve kurak geçer
- B) Hafta boyunca yağışlı hava hakimdi
- C) Gece sıcaklıkları düşük değerlerde seyrediyor
- D) Yoğun sis, kara ve deniz ulaşımını etkiliyor

8. Ekvatorda 28°C civarında olan yıllık sıcaklık ortalamaları kutuplarda 0°C'nin altına düşmektedir.

Ekvator ve kutupların yıllık sıcaklık ortalamaları arasındaki farkın temel nedeni aşağıdakilerden hangisidir?

- A) Etkili olan dış kuvvetlerin farklı olması
- B) Kara ve deniz oranlarının farklı olması
- C) Güneş ışınlarının geliş açısının farklı olması
- D) Bitki ve hayvan türlerinin farklılık göstermesi

9. Sıcaklığın yeryüzündeki dağılışı üzerinde aşağıdakilerden hangisinin etkisi daha azdır?

- A) Dünya'nın şeklinin
- B) Yer'in eksen eğikliğinin
- C) Dünya'nın günlük hareketinin
- D) Dünya'nın yörüngedeki dönüş hızının

10. Nem miktarının fazla olduğu yerlerde mevsimlik sıcaklık farkları azdır.

Merkez	Ocak ayı sıcaklık ortalaması (°C)	Ağustos ayı sıcaklık ortalaması (°C)
I	5	27
II	18	25
III	2	28
IV	12	25

Buna göre, Ocak ve Ağustos aylarına ait sıcaklık ortalaması verilen merkezlerden hangisinde nem miktarı daha fazladır?

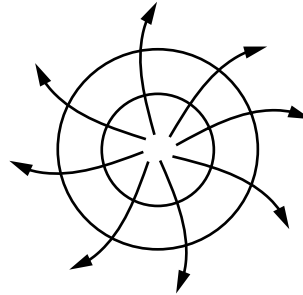
- A) I
- B) II
- C) III
- D) IV

11. Güney Yarım Küre'de kış sıcaklık ortalamaları Kuzey Yarım Küre'den daha yüksektir.

Bu durum Güney Yarım Küre'nin hangi özelliğinin sonucudur?

- A) Nüfus miktarının daha az olmasının
- B) Yer şekillerinin çeşitlilik göstermesinin
- C) Mevsim sürelerinin farklılık göstermesinin
- D) Deniz ve okyanusların daha fazla alan kaplamasının

12. Aşağıdaki görselde bir yerin hava hareketi gösterilmiştir.



Bu yer için aşağıdakilerden hangisi söylenebilir?

- A) Alçak basınç merkezidir
- B) Güney Yarım Küre'de yer alır
- C) Basınç değerleri çevresine oranla daha azdır
- D) Hava hareketi merkezden çevreye doğrudur

13. • Yaz ve kış mevsimlerinde kara ve deniz arasında yön değiştirir
• Hindistan, Çin, Japonya ve Bangladeş gibi ülkelerin iklimi üzerinde etkilidir

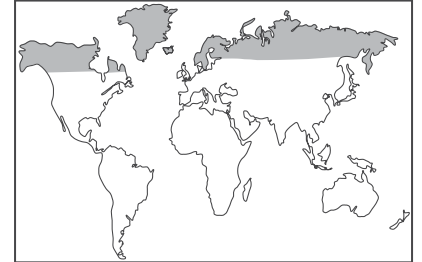
Yukarıda bazı özellikleri verilen rüzgâr aşağıdakilerden hangisidir?

- A) Fön rüzgârları
- B) Alize rüzgârları
- C) Muson rüzgârları
- D) Meltem rüzgârları

14. Isınan nemli hava kütesinin hızla yükselmesi sonucunda soğuyup yoğunlaşmasıyla oluşan yağış çeşidi aşağıdakilerden hangisidir?

- A) Yamaç yağışları
- B) Cephe yağışları
- C) Orografik yağışlar
- D) Konveksiyonel yağışlar

15.



Haritada taranarak gösterilen alanda yetişen bitki türlerinin ortak özelliği aşağıdakilerden hangisidir?

- A) Soğuğa dayanıklıdır
- B) Kök sistemi gelişmiştir
- C) Her mevsim yağış ister
- D) Geniş yapraklıdır

16. I. Sıcaklık ortalamaları 20°C'nin altındadır
II. Bitki örtüsü yıl boyunca yeşil kalan gür ormanlardır
III. Yağış rejimi düzenlidir

Yukarıdakilerden hangileri ekvatorial iklimin özelliklerindedir?

- A) Yalnız I
- B) Yalnız III
- C) I ve II
- D) II ve III

1. OTURUM

17. Ege Denizi'nin ortaya çıkışı, linyit, petrol ve tuz yataklarının oluşumu hangi jeolojik zamanda gerçekleşmiştir?

- A) Prekambrien
- B) Neozoik
- C) Mezozoik
- D) Paleozoik

18. Aşağıdaki dış kuvvetlerden hangisinin yeryüzünün şekillenmesindeki etkisi daha fazladır?

- A) Rüzgârlar
- B) Buzullar
- C) Akarsular
- D) Dalgalar

19. Aşağıdakilerden hangisi rüzgârların etkisiyle oluşan yer şekillerine örnektir?

- A) Mantar kaya
- B) Delta ovası
- C) Dev kazanı
- D) Traverten

20. I. Yamaçların eğim durumu
II. Yağış miktarı
III. Denizlere uzaklık

Heyelanların oluşmasında yukarıdakilerden hangileri etkilidir?

- A) Yalnız I
- B) Yalnız II
- C) I ve II
- D) II ve III

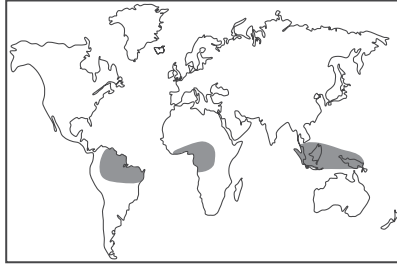
(155) COĞRAFYA – 5

1. • Bazı canlılar yeni şartlara uyum sağlama çabasıdadır
• Canlıların bir kısmı uygun koşulların olduğu yerlere göç etmektedirler
• Canlı türlerinden bazıları azalmış bazıları ise yok olmuştur

Canlı türlerinde yukarıdaki durumların gözlemlendiği bir bölge için aşağıdakilerden hangisi kesinlikle söylenebilir?

- A) Yıllık yağış miktarı artmıştır
- B) Bölgenin sınırları genişlemiştir
- C) Bölgedeki canlı türleri artmıştır
- D) Coğrafi şartlarda değişiklikler olmuştur

2.



Haritada gösterilen biyomda canlı çeşitliliğinin fazla olmasında aşağıdakilerden hangileri daha fazla etkili olmuştur?

- A) Sıcaklık – Nemlilik
- B) Yer şekilleri – Toprak yapısı
- C) Hakim rüzgarlar – Basınç değerleri
- D) Jeolojik yapı – Beşeri faktörler

3. Aşağıdaki biyomlardan hangisinde yaşayan canlı türleri düşük sıcaklık değerlerine daha az dayanıklıdır?

- A) Tundra biyomu
- B) Savan biyomu
- C) Kutup biyomu
- D) Dağ biyomu

4. Sadece Amerika kıtasında görülen bazı bitki ve hayvan türleri coğrafi keşiflerin sonucunda Avrupa ve Asya kıtalarında da yetiştirilmeye başlanmıştır.

Bu durum canlıların yeryüzündeki dağılışı üzerinde aşağıdakilerden hangisinin etkisine örnek oluşturur?

- A) İklim
- B) İnsan
- C) Kıtaların kayması
- D) İklim değişiklikleri

5. Aşağıdaki canlılardan hangisi kendi enerjisini kendi üretebilir?

- A) Kayın
- B) Yılan
- C) Tavşan
- D) Kartal

6. Aşağıda verilen yerlerden hangisinde birim alandaki terlemeyle atmosfere karışan su buharı miktarı daha fazladır?

- A) Çöl bölgelerinde
- B) Deniz kıyılarında
- C) Dağlık alanlarda
- D) Ormanlık alanlarda

7. • Ortalama yaşam süresi uzamaktadır
• Eğitim seviyesi artmaktadır
• Hayat standardı yükselmektedir

Son 20 yıllık dönemde yukarıdaki durumların görüldüğü bir ülke ile ilgili aşağıdakilerden hangisi söylenebilir?

- A) Gelişmişlik düzeyi artmaktadır
- B) Doğum oranları artmaktadır
- C) Tarımda çalışanların oranı artmaktadır
- D) Kırsal nüfusu kent nüfusundan fazladır

8. Aşağıdakilerden hangisi Bursa'da üretilen bir otomobilin dağıtım aşamasıdır?

- A) Mühendislerin yeni otomobil dizaynı geliştirmeleri
- B) Otomobilin motorunun gövde içerisine yerleştirilmesi
- C) Otomobilin İzmit limanından gemilere yüklenmesi
- D) Otomobili satın aldıktan sonra akraba ziyaretine gidilmesi

9. Aşağıdaki haberlerden hangisi tüketimin üretimi etkilemesine örnek oluşturur?

- A) Bu kış hamsinin bol olması balık fiyatlarının ucuzlamasına neden olmuştur.
- B) Şalgam suyu üreticileri kuş gri-bine iyi geldiği iddiasıyla artan talebe yetişememektedir.
- C) Petrol fiyatlarının düşmesi benzin tüketimini artırdı
- D) İlkbaharda yaşanan don olayı kayısı üretimini azaltmıştır.

10. Aşağıdakilerden hangisi bir ülkenin gelişmişliği üzerinde daha belirleyici olmaktadır?

- A) Yetişmiş insan gücüne sahip olması
- B) Zengin doğal kaynaklara sahip olması
- C) Geniş yüzölçümüne sahip olması
- D) Nüfus miktarının fazla olması

1. OTURUM

11. Dünyanın en büyük çöllerinden olan Sahra Çölü Kuzey Afrika'nın büyük kısmını kaplamaktadır.

Bu durum Kuzey Afrika'ya aşağıdaki doğal kaynaklardan hangisi bakımından avantaj sağlar?

- A) Su B) Dalga
C) Güneş D) Toprak

12. Türkiye'nin en büyük delta ovalarından biri olan Çukurova'nın aşağıdaki faaliyetlerden hangisi için kullanılması sürdürülebilir kalkınma için en uygun olur?

- A) Tarım
B) Yerleşme
C) Sanayileşme
D) Hayvancılık

13. Bir ülkede gelişmişlik düzeyinin artmasının tarım ve hizmet sektörlerinde çalışanların oranında meydana getireceği değişim ile ilgili aşağıdakilerden hangisi doğrudur?

	Tarım	Hizmet
A)	artar	azalır
B)	azalır	azalır
C)	artar	artar
D)	azalır	artar

14. I. Sanayide dışa bağımlılığı arttırmak
II. Daha fazla ülkeye, daha fazla ihracat yapmak
III. İleri teknoloji ürünlerinin üretimini arttırmak

Yukarıdakilerden hangileri Türkiye'nin 2023 hedefleri arasında gösterilemez?

- A) Yalnız I B) Yalnız II
C) I ve III D) II ve III

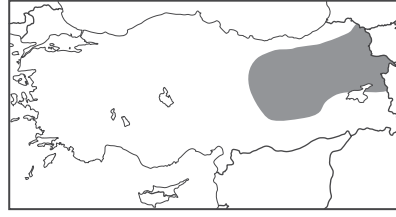
15.



Haritada yetiştirilme alanlarının dağılışı verilen tarım ürünü aşağıdakilerden hangisidir?

- A) Ayçiçeği B) Fındık
C) Buğday D) Zeytin

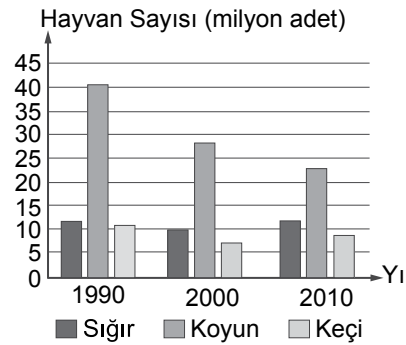
16.



Haritada taralı alanda büyükbaş hayvancılığın yaygın olmasında aşağıdakilerden hangisinin etkisi en azdır?

- A) Gür çayırların bulunması
B) Yerçekillerinin engebeli olması
C) Nüfus yoğunluğunun düşük olması
D) Sıcaklık ortalamalarının düşük olması

17. Aşağıda 1990, 2000 ve 2010 yıllarında Türkiye'deki sığır, koyun ve keçi sayılarının değişimi gösterilmiştir.



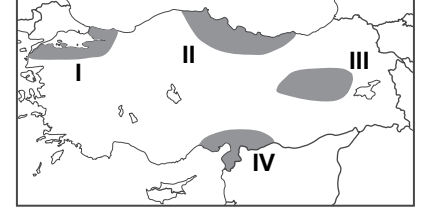
Tablodaki bilgilerden faydalanarak aşağıdakilerden hangisine ulaşamaz?

- A) Koyun sayısı sürekli azalmıştır
B) Sığır sayısı önce azalmış sonra artmıştır
C) Keçi ve sığır sayısı arasındaki fark 1990 yılında en azdır
D) Koyun sayısı 2000 yılında 40 milyonu aşmıştır

18. Denizli Sarayköy'de aşağıdaki kaynaklardan hangisi ile enerji üretimi yapılmaktadır?

- A) Doğal gaz B) Rüzgâr gücü
C) Jeotermal D) Güneş

19.



Haritada taralı alanlardan hangisi Kuzey Anadolu Fayı ile Güney Anadolu Fayı'nın karşılaşma alanıdır?

- A) I B) II C) III D) IV

20. Aşağıdakilerden hangisi sanayinin yoğunlaştığı şehirlerdendir?

- A) Bursa B) Iğdır
C) Yozgat D) Elazığ

(157) COĞRAFYA – 7

1. Aşağıdaki ifadelerden hangisi ekstrem olaylara örnek oluşturur?

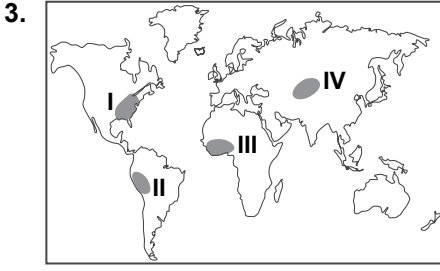
- A) Sıcaklıklar mevsim normallerinin biraz üzerinde seyretmektedir
B) Köyümüze yaklaşık bir aydır yağmur düşmedi.
C) Şehrimize bir yılda düşen yağış miktarı üç saatte düştü
D) Kar kalınlığı önceki yıllardaki gibi bir metrenin üzerine çıktı

2. Manş tüneli, İngiltere ve Fransa'yı denizin altından birleştirmektedir.

Ülkemizde aşağıdaki projelerden hangisi denizin altından iki kıtayı birleştirmesi nedeniyle Manş tüneli örneğine benzerlik gösterir?

- A) Marmaray projesi
B) Kanalistanbul projesi
C) Metrobüs hattı projesi
D) İzmit körfez geçiş projesi

1. OTURUM



Fosil yakıtların kullanımı küresel ısınmayı hızlandıran en büyük etmendir.

Buna göre haritada verilen yerlerden hangisinin küresel ısınmaya etkisi daha fazladır?

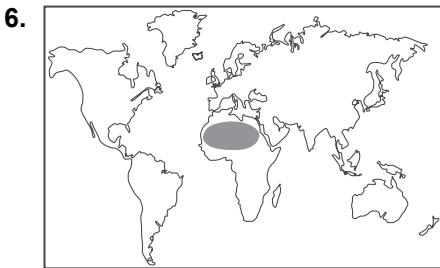
- A) I B) II C) III D) IV

4. Aşağıdaki gazlardan hangisinin atmosferdeki oranının artması küresel ısınmaya **daha fazla** etki eder?

- A) Azot
B) Oksijen
C) Su buharı
D) Karbondioksit

5. Aşağıdakilerden hangisi Amerika Kıtası'nda kurulan medeniyetlerden **değildir**?

- A) Aztek B) Hint
C) Maya D) İnkâ



**Haritada taranarak verilen alan-
daki insanların su kaynakları-
nın yakınlarında toplanmasının
sebebi nedir?**

- A) Düşük sıcaklık
B) Gür bitki örtüsü
C) Kuraklık
D) Yükselti ve engebe

7. Aşağıdaki şehirlerden hangisinin ileri teknoloji ürünlerinin üretim ve satışından elde ettiği gelir **daha fazladır**?

- A) Tokyo
B) Cakarta
C) Atina
D) Rio de janerio

8. • Tarım alanlarının az olması
• Kıyılarında liman olmaya elverişli ada ve yarımadaların olması
• Yeraltı ve yerüstü kaynaklarının yetersiz olması

gibi özellikler aşağıdaki medeniyetlerden hangisinde deniz ticaretinin ve balıkçılığın gelişmesine olanak sağlamıştır.

- A) Akdeniz B) Mısır
C) İnkâ D) Mezopotomya

9. Uzak ve uydu teknolojilerinin aşağıdaki alanlardan hangisindeki önemi **daha azdır**?

- A) Haberleşme B) Seyrüsefer
C) Gözlem D) Tıp

10. Kömür madeninin çıkarıldığı yerlerde genellikle aşağıdaki sanayi kollarından hangisi gelişir?

- A) Tekstil
B) Demir-çelik
C) Petrokimya
D) Tersaneler

11. Aşağıdakilerden hangisi ülkemizin gelişmişlik düzeyini artırmak için yapılacak çalışmalar arasında **yer almaz**?

- A) İleri teknoloji ürünlerinin üretimine ağırlık verilmesi
B) Araştırma ve geliştirme faaliyetlerine ağırlık verilmesi
C) Tasarrufları azaltma ve tüketimin özendirilmeye çalışılması
D) Başta insan olmak üzere sahip olduğu kaynakları verimli kullanması



Haritada taralı alan aşağıdaki bölge sınıflandırmalarından hangisine **daha az uyar?**

- A) Sanayi bölgesi
B) Ticaret bölgesi
C) Maden bölgesi
D) Kentsel bölge

13. Ülkemizde yük ve yolcu taşımacılığında aşağıdaki ulaşım sistemlerinden hangisi ilk sırada yer almaktadır?

- A) Kara yolu B) Hava yolu
C) Deniz yolu D) Demir yolu

14. Bulunduğu merkezi konum, uluslararası düzeyde kara, hava ve deniz yolu ulaşımında ülkemizin önemini arttırmıştır.



Buna göre haritadaki bölgelerden hangisinin ulaşım sistemlerinde ülkemizin öneminin **daha az olması beklenir?**

- A) Balkanlar B) Ortadoğu
C) Kafkasya D) Orta Asya

15. Aşağıdaki limanlardan hangisinin ülkemizin iç ve dış ticaretindeki önemi **daha azdır**?

- A) Mersin B) Sinop
C) İzmir D) İstanbul

16. Ülkemizin iç ve dış ticaretinde aşağıdaki şehirlerimizden hangisinin payı **en fazladır**?

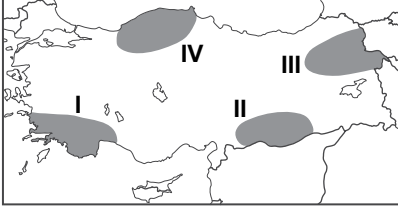
- A) Adana B) İstanbul
C) Ankara D) İzmir

1. OTURUM

17. Türkiye'nin dış ticaretinde aşağıdaki yerlerden hangisinin payı daha fazladır?

- A) Orta Asya ülkeleri
B) Ortadoğu ülkeleri
C) Kuzey Afrika ülkeleri
D) Avrupa Birliği ülkeleri

18.



Çifte Minareli Medrese, Ani Harabeleri ve İshakpaşa Sarayı'nı gezen turist grubu haritada taralı alanlardan hangisine seyahat etmiştir?

- A) I B) II C) III D) IV

19. Aşağıdaki illerimizden hangisinin Türkiye'nin yaz (deniz) turizmindeki önemi daha azdır?

- A) Antalya B) Muğla
C) İzmir D) Hatay


20. Aşağıdakilerden hangisi ülkemizdeki önemli kayak merkezleri arasında gösterilemez?

- A) Erciyes B) Uludağ
C) Karacadağ D) Sarıkamış

(181) İNGİLİZCE – 1

1 - 19. sorularda boş bırakılan yere uygun gelen kelime ya da ifadeyi işaretleyiniz.

1.



The cat is sleeping ---- the door.

- A) between B) under
C) in front of D) on

2. I don't like vegetables very much and I ---- eat tomatoes and potatoes.

- A) always B) usually
C) often D) never

3. ---- Black Sea is the home of many creatures.

- A) The B) An
C) A D) -

4. The classroom is getting colder. ----, please!

- A) Write the exercises
B) Don't use your pen
C) Close the window
D) Don't be late

5. Two of my students ---- ill yesterday so they couldn't come to school.

- A) were B) will
C) was D) are

6. I believe the boy ---- more successful in the next exam.

- A) was B) to be
C) will be D) is being

7. Most people ---- televisions at their homes until 1970s in Turkey.

- A) don't have
B) didn't have
C) won't have
D) hasn't have

8. I ---- to İstanbul for an important meeting at 10 o'clock tomorrow.

- A) am going to fly
B) has flown
C) flies
D) flew

9. Ali's grandparents ---- us yesterday and we drank something.

- A) became B) bought
C) visited D) wore

10. Deniz and Bora ---- always ---- to music loudly when I go to bed at nights.

- A) will / listen
B) are / listening
C) have / listened
D) were / listening

11. My elder sister ---- have long black hair, but now her hair ---- short and yellow.

- A) are / used to have
B) are used to / is
C) uses / was
D) used to / is

12. I want to buy ---- new trousers over there.

- A) an B) this
C) that D) those

13. Mum : Could you give milk to the cat?

Boy : Mum, I am sorry. We don't have ---- milk to feed the cat.

- A) any B) many
C) some D) a few

14. I have got a son and ---- is almost a year old.

- A) himself B) him
C) his D) he

15. A: ---- does your sister go abroad?

B: Three times a year.

- A) How long B) How many
C) How often D) How much

16. Students ---- study hard to pass the exam.

- A) may B) should
C) musn't D) couldn't

1. OTURUM

(181) ALMANCA – 1

1 - 17. sorularda boş bırakılan yere uygun gelen kelime ya da ifadeyi işaretleyiniz.

17. A: The lights of their home are on.

B: They - - - - be at home.

- A) must
- B) would
- C) shouldn't
- D) don't have to

18. A: Do you like spending time outside?

B: No, - - - - . I prefer being at home.


- A) I'm not
- B) I won't
- C) I can't
- D) I don't

19. A: What are your brothers doing right now?

B: - - - - .

- A) I like cooking very much
- B) They are preparing something to eat
- C) She is going to have a big breakfast with me
- D) He will go to swimming pool tomorrow afternoon

20. Aşağıda verilen görseli ifade eden seçeneği işaretleyiniz.



- A) Take the third right.
- B) Take the second right.
- C) Turn left at the traffic light.
- D) Turn right at the traffic light.

1.



A: Wie spät ist es?

B: Es ist zehn - - - - elf.

- A) nach
- B) Viertel
- C) vor
- D) halb

2. A: Hallo, ich bin Mustafa. Wer - - - - du?

B: Ich - - - - Klaus.

- A) bist / bin
- B) bin / bist
- C) sein / ist
- D) ist / bist

3. Helga ist 15 Jahre alt. Sibel ist 16 Jahre alt.

Helga ist - - - - als Sibel.

- A) älter
- B) genauso alt
- C) genauso jung
- D) jünger

4. Sie ist mein- - - - - Schwester. - - - - heißt Claudia.

- A) -e / Sie
- B) -er / Er
- C) -es / Es
- D) -- / Ihr

5. Januar, Februar, - - - -

- A) April
- B) März
- C) Mai
- D) Dezember

6. Ali kann so schnell - - - - ich laufen.

- A) sein
- B) ist
- C) wie
- D) als

7. A: - - - - kommt sie?

B: Aus Italien.

- A) Wie
- B) Wann
- C) Was
- D) Woher

8. A: Hasan, kannst du bitte das Fenster - - - - ?

B: Ja, natürlich.

- A) schreibe
- B) aufstehen
- C) setzen
- D) öffnen

9. A: Wann gehst du zum Arzt?

B: - - - - 14.00 Uhr.

- A) Am
- B) Im
- C) Um
- D) Bis

10. Mittwoch, Donnerstag, - - - -

- A) Samstag
- B) Freitag
- C) Sonntag
- D) Dienstag


11. - - - - 25. Januar haben wir Ferien.

- A) Am
- B) Im
- C) Um
- D) Bei

12. Ein Jahr hat zwölf - - - - .

- A) Tage
- B) Wochen
- C) Monate
- D) Jahre

13.



A: Wo ist meine Tasche?

B: Sie ist - - - - dem Tisch.

- A) auf
- B) neben
- C) über
- D) unter

14. Ich habe viel- - - - - Bücher gelesen.

- A) -e
- B) -er
- C) -es
- D) -en

1. OTURUM

15. A: - - - - du Klavier spielen?
B: Nein, leider nicht.

- A) Kann B) Kannst
C) Können D) Konnte

16.



A: Ist das ein Vogel?
B: Nein, das ist - - - - Hund .

- A) ein B) eine
C) eines D) einer

17. 26, 27, - - - -

- A) achtzehn
B) achtunddreißig
C) achtzig
D) achtundzwanzig

18. Aşağıda verilen sıfatlardan hangisinin çekimi yanlıştır?

	Positiv	Komparativ	Superlativ
A)	gut	guter	am gutesten
B)	lang	länger	am längsten
C)	viel	mehr	am meisten
D)	klein	kleiner	am kleinsten

19. Aşağıdakilerden hangisi anlamca diğerlerinden farklıdır?

- A) Schule B) Schultasche
C) Schuhe D) Schüler

20. Aşağıdaki sıfatların hangisinde zıt anlamı doğru verilmiştir?

- A) kurz x schön
B) schnell x langsam
C) viel x besser
D) groß x lang

(181) FRANSIZCA – 1

1 - 16. sorularda boş bırakılan yere uygun gelen kelime ya da ifadeyi işaretleyiniz.

1. - - - - aimons les chansons françaises.

- A) Elles B) Vous
C) Ils D) Nous

2. Hier matin, - - - - as marché cinq kilomètres.

- A) tu B) elles
C) il D) je

3. Metin et Emel - - - - en Espagne par avion avec la compagnie Turkish Airlines.

- A) sommes arrivés
B) sont arrivés
C) sont arrivées
D) êtes arrivés

4. La semaine dernière, nous - - - - vendu notre vieille voiture.

- A) sommes B) ont
C) avons D) sont

5. M. Gilbert - - - - sorti de l'hôtel à 7 heures.

- A) êtes B) est
C) ont D) sont

6. Eren et sa famille ont passé - - - - à Rize.

- A) la rue
B) le visage
C) le week-end
D) les yeux

7. Nous avons visité - - - - les musées d'Amsterdam.

- A) aucun B) chaque
C) personne D) tous

8. Mon cousin est né - - - - jour que moi.

- A) le même B) les mêmes
C) certaine D) les autres

9. A: Beyza est célibataire?
B: Non, - - - - depuis deux mois.

- A) il est beau
B) il est divorcé
C) elle est mariée
D) elle est jeune

10. Si je savais ton adresse, je t' - - - - une carte postale.

- A) ont envoyé B) ai envoyé
C) envoyais D) enverrais

11. Si tu veux, nous - - - - ensemble avant d'aller au concert.

- A) mangerons
B) avions mangé
C) mangerions
D) aviez mangé

12. A: Vous écoutez les informations à la radio?
B: Non, je - - - - les informations à la radio.

- A) n'écoutent pas
B) n'écoute pas
C) ne pas écouter
D) écouter

13. A: Tu as déjà vu le Mont Nemrut?

B: Non, je ne - - - - ai pas vu.

- A) le (l') B) lui
C) la (l') D) leur

14. A: Tu aimes la danse africaine?
B: Oui, je - - - - aime bien.

- A) les B) le (l')
C) la (l') D) des

1. OTURUM

15. A: Est-ce qu'il y a de l'eau fraîche dans le frigo?
B: Non, il n'y a pas - - - - eau fraîche dans le frigo.

A) des B) de la
C) du D) de (d')

16. Un peigne sert à - - - - .

A) lire
B) se coiffer
C) dormir
D) se brosser les dents


17. Cümleler sırasıyla okunduğunda anlam bütünlüğünü bozan cümleyi bulunuz.

(I) Elle est souriante. (II) Elle continue tout droit. (III) Elle a les yeux bleus. (IV) Elle porte des lunettes.

A) III B) IV C) II D) I

18-19 ve 20. sorularda verilen resme göre doğru ifadenin bulunduğu seçeneği işaretleyiniz.

18.



- A) Elle a les cheveux raides et elle porte un collier de perles.
B) Elle a les cheveux frisés et elle porte un tee-shirt.
C) Elle a les cheveux longs et elle porte une veste.
D) Elle a un chapeau et elle porte des lunettes.

19.



Elle est très - - - - .

A) sportive B) gentil
C) souriant D) paresseuse

20.



Il a un nez - - - - .

A) ovale B) droite
C) longue D) épaté

(244) İNGİLİZCE – 5

1 - 20. sorularda boş bırakılan yere uygun gelen kelime ya da ifadeyi işaretleyiniz.

1. My friends - - - - that TV show last night.

A) have watched
B) are watching
C) has watched
D) watched

2. What - - - - she - - - - when you saw her?

A) was / doing B) are / doing
C) does / do D) has / done

3. I haven't seen her - - - - a long time.

A) before B) yet
C) since D) for

4. Where - - - - you - - - - your car yesterday?

A) will / park B) do / park
C) did / park D) have / parked

5. She hasn't swum in the sea - - - - she moved this city.

A) never B) since
C) for D) ever

6. I was studying English when - - - - .

A) my father comes home at 18:00
B) my mother has cooked dinner
C) Selin will enter the room
D) Arda called me

7. I - - - - a luxurious house in Ankara in the future.

A) will buy B) buy
C) bought D) have bought

8. My grandmother - - - - me stories when I was a kid.

A) tell B) tells
C) used to tell D) is telling

9. Where - - - - he - - - - next summer?

A) will / go B) does / go
C) was / going D) were / going

10. Let's eat out, - - - - ?

A) is he B) will you
C) does she D) shall we

11. Mario never comes to school on time, - - - - ?

A) did he B) does he
C) didn't he D) doesn't he

12. Don't spend too much time on the Net, - - - - ?

A) will you B) don't they
C) does he D) didn't we

1. OTURUM

(244) ALMANCA – 5

1 - 18. sorularda boş bırakılan yere uygun gelen kelime ya da ifadeyi işaretleyiniz.

13. What - - - - you - - - - when you were in Erzurum?

- A) will / do
- B) have / done
- C) did / use to do
- D) are / use to do

14. - - - - the teacher was answering the question, the manager got into the class.

- A) When
- B) While
- C) Before
- D) Since

15. I - - - - properly for two weeks.

- A) was sleeping
- B) haven't slept
- C) hasn't slept
- D) slept

16. I can't hear you. Can you speak more - - - - ?

- A) comfortably
- B) carelessly
- C) loudly
- D) slowly

17. This English exam is - - - - than the last one.

- A) hard
- B) the hardest
- C) so hard
- D) harder

18. A house in Bursa is - - - - than a house in Çankırı.

- A) expensive
- B) so expensive
- C) more expensive
- D) the most expensive

19. There are - - - - people in İstanbul than in İzmir.

- A) more
- B) much
- C) many
- D) a lot of

20. My exam results are - - - - than yours.

- A) bad
- B) so bad
- C) the worst
- D) worse

9. Nach der Zahl 26 kommt - - - - (27).

- A) fünfundzwanzig
- B) siebzehn
- C) siebenundzwanzig
- D) siebzig

10. Wir sind letztes Jahr nach Kuşadası - - - -.

- A) fahren
- B) gefahren
- C) fuhr
- D) fährt

11. der Tag, - - - -, das Jahr

- A) die Stunde
- B) die Minute
- C) der Sommer
- D) der Monat

12. Das Spiel endet - - - - 22 Uhr.

- A) am
- B) im
- C) bei
- D) um

13. Welches ist ein Monat im Winter?

- A) Februar
- B) April
- C) Juni
- D) September

14. - - - - ich 10 Jahre alt war, ging ich in die Grundschule.

- A) Bei
- B) Als
- C) Um
- D) So

15. Du - - - - abends deine Zähne putzen.

- A) soll
- B) sollen
- C) solle
- D) sollst

16. Die Lehrerin - - - - uns eine Geschichte.

- A) lese
- B) liest
- C) lesen
- D) gelesen

17. Hakan (11) ist - - - - Mehmet (19).

- A) jung
- B) alt
- C) so
- D) jünger als

1. A: Ist Ali heute in der Schule?

B: Nein, er ist - - - - in der Schule.

- A) nicht
- B) kein
- C) doch
- D) aber

2. A: Bist du 16 Jahre alt?

B: Ja, ich - - - - 16 Jahre alt.

- A) ist
- B) sind
- C) sein
- D) bin

3. Kaufst du ein Haus - - - - eine Wohnung?

- A) aber
- B) oder
- C) weil
- D) denn

4. A: Wann ist Hatice geboren?

B: Sie ist - - - - 24. März geboren.

- A) am
- B) im
- C) um
- D) bei

5. Ich möchte Lehrer - - - -.

- A) werde
- B) wirst
- C) werden
- D) wird

6. Sie - - - - jeden Tag Tischtennis.

- A) spielt
- B) Spiel
- C) spiele
- D) spielst

7. Die Türkei ist - - - - als Deutschland.

- A) groß
- B) größer
- C) großes
- D) am größten

8. A: Wo ist Mehmet?

B: Er ist - - - - Hause.

- A) bei
- B) um
- C) zu
- D) an der

1. OTURUM

18. Wir wohnen - - - - 5 Jahren in Ankara.

- A) seit B) bis C) bei D) um

19. Aşağıdaki sözcüklerden hangisinin Almanca karşılığı yanlış verilmiştir?

- A) daha az - weniger
B) daha uzun - länger
C) daha yavaş - schneller
D) daha çok - mehr

20. Aşağıdakilerden hangisinin Türkçe karşılığı yanlış verilmiştir?

- A) Guten Morgen - Günaydın
B) Mittag - Öğlen
C) Donnerstag - Çarşamba
D) Abend - Akşam

(244) FRANSIZCA – 5

1 - 16. sorularda boş bırakılan yere uygun gelen kelime ya da ifadeyi işaretleyiniz.

1. - - - - regarde la télé du matin au soir.

- A) Nous B) Ils
C) Elle D) Vous

2. Hier soir, - - - - sont rentrées à cinq heures du matin.

- A) nous B) elles
C) ils D) lui

3. Nicole? C'est la fille - - - - joue dans la neige.

- A) qui B) que
C) dont D) donc

4. Paris est la ville - - - - se trouve la tour Eiffel.

- A) que B) qui
C) donc D) où

5. Voici la voiture blanche - - - - Çetin a acheté.

- A) qui B) ce qui
C) ce que D) que

6. - - - - il fait chaud, Pierre va à la piscine.

- A) Pourquoi B) Quand
C) Comment D) Combien

7. Nous nous sommes promenés dans les rues de Foça - - - - printemps.

- A) au B) en
C) il y a D) dans

8. Paulette a fait du - - - - dans les Alpes dimanche dernier.

- A) boxe B) natation
C) marche D) ski

9. - - - -, j'irai au lac d'Abant pour faire du camping.

- A) Lundi dernier
B) Samedi prochain
C) Hier
D) Pendant

10. L'enfant - - - - le père habite à Paris, est joueur de football.

- A) qui B) où
C) dont D) que

11. Les enfants apprennent beaucoup de choses - - - - la télé.

- A) regardez B) en regardant
C) regardé D) regarder

12. Arda - - - - au football à l'équipe de Barcelone est sympa.

- A) jouant B) en jouant
C) jouer D) jouent

13. Nous faisons de l'aérobic en - - - - de la musique.

- A) écoute B) écouter
C) écoutant D) écoutons

14. Ils ne vont pas - - - - l'école - - - - pied.

- A) aux / en B) en / en
C) à / en D) à / à

15. Pour me baigner, je vais - - - - .

- A) à la mer B) à la mairie
C) à la librairie D) au café

16. "M. et Mme Dubois ont pris l'avion pour Nice." cümlesinde altı çizili sözcüklerin yerine aşağıdaki şahıs zamirlerinden hangisi konulabilir?

- A) Vous B) Nous
C) Ils D) Elles

17 - 18. sorularda verilen cümlelerin Türkçe karşılığını işaretleyiniz.

17. Il a vu son fils regardant le match de tennis.

- A) Oğlunu tenis oynarken izliyor.
B) Tenis maçı izleyen oğlunu gördü.
C) Tenis oynarken birden oğlunu fark etti.
D) Tenis oynayan oğlunu izliyordu.

18. Temel lit le journal en écoutant la radio.

- A) Temel gazete okurken radyo dinleyemez.
B) Temel radyo dinlerken gazete okuyor.
C) Temel radyo dinlerken gazete okuyamaz.
D) Temel gazete okurken radyo dinledi.

1. OTURUM

19 ve 20. sorularda verilen cümlelerin Fransızca karşılığını işaretleyiniz.

19. Süt içen çocuklar sınıftan çıktılar.

- A) Les enfants buvant du lait sont sortis de la classe.
- B) J'ai vu des enfants buvant du lait dans la rue.
- C) Des enfants veulent boire du lait dans le jardin.
- D) Des enfants prenant du lait entrent dans la classe.

20. Televizyon izlerken ödevlerini yapıyorlardı.

- A) Ils mangeaient devant la télévision.
- B) Ils ont fait leurs valises en regardant la télévision
- C) Ils s'endormaient en regardant la télévision.
- D) Ils faisaient leurs devoirs en regardant la télévision.

(401) DİL VE ANLATIM – 1

1. İletişimde dört temel öge bulunur. Bu ögeler şunlardır: Kaynak, ----, ----, ----.

Bu parçada boş bırakılan yerlere aşağıdakilerden hangisi getirilemez?

- A) alıcı
- B) mesaj
- C) işaret
- D) ortam

2. Aşağıdakilerden hangisi dil bilgisinin inceleme alanına girmez?

- A) Dilin doğuşu ve gelişimi
- B) Sözcüklerin yapısı
- C) Sözcüklerin anlamları
- D) Yazarların edebî kişilikleri

3. Dilin en önemli niteliği toplumdaki insanlar arasında anlaşma sağlayan sosyal bir kurum olmasıdır. Kendine göre birtakım yasaları vardır. İhtiyaçlar doğrultusunda yeni sözcükler türetilir. Kullanılan bazı sözcükler anlam kaymasına uğrar, kullanılmayanlar unutulup gider.

Bu parçadan dille ilgili aşağıdakilerden hangisi çıkarılmaz?

- A) Canlı bir varlık olduğu
- B) İnsanlar arasında iletişimi sağladığı
- C) Belirli kuralları olduğu
- D) Millî birliğin oluşmasına katkı sağladığı

4. Bir dilin alt bölümleri ----, ---- ve ---- olarak adlandırılır.

Bu cümlede boş bırakılan yerlere aşağıdakilerden hangisi getirilemez?

- A) bağlam
- B) ağız
- C) şive
- D) lehçe

5. Aşağıdaki cümlelerin hangisinde bilgi yanlışlığı vardır?

- A) Toplumların yüzyıllar boyu maddi ve manevi alanda ürettiği eserler, gelecek kuşaklara dil sayesinde aktarılır.
- B) Konuşma ve yazı dili birbirinden bağımsız gelişir.
- C) Toplumların yaşam biçimleri, gelenek-görenekleri, kullandıkları araç-gereçler, inançları, dili, sanat anlayışı vb. kültürü oluşturur.
- D) Yazı dilinde noktalama işaretlerine ve yazım kurallarına dikkat edilir.

6. Eklemeli (bitişken) dillerde bir veya daha çok heceli köklere yapım ve çekim ekleri eklenir. Getirilen ekler kökle kaynaşır. Köke getirilen yapım ekleri ile yeni sözcükler türetilir. Yeni ekler eklendiğinde kökte bir değişiklik olmaz.

Aşağıdakilerden hangisi bu parçada tanıtılan dil grubuna girer?

- A) Türkçe
- B) Arapça
- C) İngilizce
- D) Çince

7. Aşağıdakilerin hangisinde bilgi yanlışlığı vardır?

- A) Arapça, yapı bakımından çekimli dil grubunda bulunur.
- B) Türkçe, köken bakımından Ural-Altay dil ailesi içinde yer alır.
- C) Japonca yapı bakımından eklemeli diller grubunda bulunur.
- D) İngilizce, köken bakımından Hami-Sami dil ailesi içinde yer alır.

8. Aşağıdakilerden hangisi Ural-Altay dillerinin özelliklerinden biri değildir?

- A) Sondan eklemeli bir yapıya sahiptir.
- B) Sözcüklerde dil bilgisi bakımından erkek ve dişi tür ayrımı vardır.
- C) Ses, yapı ve söz dizimi bakımından benzerlikler bulunur.
- D) Ünlü uyumu vardır.

9. Aşağıdakilerden hangisi Eski Türkçe Çağı'nda yazılan ürünlerden biri değildir?

- A) Tonyukuk Anıtı
- B) Bilge Kağan Anıtı
- C) Atabetü'l-Hakayık
- D) Altın Yaruk

10. Karahanlılar devrinde, 1068 yılında Yusuf Has Hacip tarafından yazılan eser bir siyasetnamedir. Eserde iyi bir devlet yönetimi için yönetim kadrosunda bulunan kişilerin ne gibi nitelikler taşıması gerektiği belirtilir.

Bu parçada sözü edilen eser aşağıdakilerden hangisidir?

- A) Kültigin Anıtı
- B) Kutadgu Bilig
- C) Atabetü'l-Hakayık
- D) Divanü Lügati't-Türk

11. Aşağıdaki sözcüklerden hangisi küçük ünlü uyumuna uymaz?

- A) Çamurluk
- B) Eldiven
- C) Süresiz
- D) Okullar

1. OTURUM

12. Siyah kanatlarını batıya açtı kuşlar,
I
Benden sana haberdir bu çığlıklar,
II
uçuşlar.
Dereler ardin sıra akmaya
koyulmuşlar,
III
Arıyor batan güneş seni dağlar
ardında.
IV

Bu dörtlükte numaralanmış sözcüklerden hangisi büyük ünlü uyumuna uymaz?

- A) I. B) II. C) III. D) IV.

13. Aşağıdaki dizelerin hangisinde ünsüz yumuşamasına uğrayan bir sözcük vardır?

- A) Geçtiler mini mini ayaklar üzerimden.
B) Medeniyet şimşeğinden gelir hızımız.
C) Ben her akşam dolaşırdım bu yeşil sahilde.
D) Hülyalı gözleriyle engin bir ufka dalar.

14. Kadir Mevlam eğer senden uzakta

I
Bana takdir eylemişse ölümü,
Rahat etmem bu yabancı toprakta,
II
Cennette de avutamam gönlümü.
III IV

Bu dörtlükte numaralanmış sözcüklerin hangisinde ünsüz benzeşmesi yoktur?

- A) I. B) II. C) III. D) IV.

15. Aşağıdaki dizelerde altı çizili sözcüklerin hangisinde ünlü düşmesi vardır?

- A) Saçaklarında her akşam fısıldaşır kuşlar.
B) Ümidimin aradım her tarafta izlerini.
C) Başım gökte, alnım açık gezerim.
D) Felaketler pençemizde oyuncak olur.

16. Aşağıdaki cümlelerin hangisinde yazım yanlışı vardır?

- A) 11 Ocak pazartesi günü toplantı yapılacak.
B) Tahsin Bey, şiir okumayı çok seviyormuş.
C) Yazık ki bu çocuklar sesini duyuramıyor.
D) Bu binanın on beş gün içinde boşaltılması gerekiyor.

17. Aşağıdaki cümlelerin hangisinde "de, da"nın yazımında yanlışlık yapılmıştır?

- A) Bu tartışmaya dinleyiciler de sorularıyla katılabilir.
B) Şiirde genellikle ses uyumuna dikkat edilir.
C) Arkadaşlarımla konuşurken öğretmen de yanımızdaydı.
D) Kısa bir yazının özetinde kısa olacaktır.

18. Aşağıdaki cümlelerin hangisinde yazım yanlışı vardır?

- A) Öğleden sonra, yapboz almak için evden çıktı.
B) Konunun önemli noktalarını hemen not ettim.
C) Siz pazara gide durun, biz arkanızdan geliriz.
D) Bu etkinlikte pek çok sanatsever bir araya geldi.

19. Kapının önünde uzun boylu () sağlam yapılı () şapkalı bir adam duruyordu () Kendisini tanımadığım hâlde neden bu adamdan korkuyordum ()

Bu parçada ayraçla () gösterilen yerlere sırasıyla aşağıdakilerin hangisinde verilen noktalama işaretleri getirilmelidir?

- A) (,) (:) (.) (!) B) (;) (,) (!) (?)
C) (,) (,) (.) (?) D) (,) (;) (...) (.)

20. Aşağıdaki cümlelerden hangisinin sonuna farklı bir noktalama işareti getirilmelidir?

- A) Buralara yağmur yağdı mı her yer mis gibi toprak kokar
B) İnsanları niçin bir saattir burada bekletiyorsunuz
C) Otobüsün ne zaman kalkacağını kimse bilmiyordu
D) Bugünlerde ne evde ne okulda rahat edebiliyordun

(402) DİL VE ANLATIM – 2

1. Varsın bahçelerde rüzgâr gezinsin,

I
Yağmur ince ince toprağa sinsin,
II
Bir başka âlemden gelmiş gibisin,
III
Dalmış gözlerinle pencerelerde.
IV

Bu dörtlükte numaralanmış sözcüklerden hangisinin kökü, tür bakımından diğerlerinden farklıdır?

- A) I. B) II. C) III. D) IV.

2. Aşağıdaki cümlelerde altı çizili sözcüklerden hangisi hem yapım hem de çekim eki almıştır?

- A) Özgür düşünce, durmadan gelişmek isteyen düşüncedir.
B) Akdeniz'in üstünde daima top top bulutlar salınır.
C) Bilimin bir işlevi de iyi ile kötüyü belirlemesidir.
D) Babam, doğum günümü hiçbir zaman unutmaz.

3. Akşamı getiren sesleri dinle

I
Dinle de gönlümü aliver gitsin
II
Saçlarımdan tutup kor gözlerinle
III IV
Yaşlı gözlerime daliver gitsin

Bu dörtlükte numaralanmış sözcüklerden hangisi iyelik eki almamıştır?

- A) I. B) II. C) III. D) IV.

4. Aşağıdakilerden hangisi türemiş bir sözcüktür?

- A) binbaşı B) başarı
C) gelmişti D) dert

5. Aşağıdaki cümlelerde altı çizili sözcüklerden hangisi soyut anlamlıdır?

- A) Yapılan iyilikler hiçbir zaman boşa gitmez.
B) Öykülerini her zaman salondaki masada yazardı.
C) Ağacın altına oturup beş dakika dinlendik.
D) Suyun ve kuşların sesi insana huzur veriyor.

1. OTURUM

6. "Yumuşak" sözcüğü aşağıdaki cümlelerin hangisinde mecaz anlamda kullanılmıştır?

- A) Çocuklar yumuşak yastıkların üzerine oturdular.
- B) Bu kumaş yumuşak olduğu için ütüsü çabuk bozulur.
- C) Gözlerinde her zamanki gibi yumuşak bir ifade vardı.
- D) Yumuşak toprağı kazmak kolay olur.

7. Aşağıdaki atasözlerinin hangisinde karşıt anlamlı sözcükler kullanılmamıştır?

- A) Az veren candan, çok veren maldan.
- B) Yel ile gelen sel ile gider.
- C) Dost başa, düşman ayağa bakar.
- D) Yalancının mumu yatsıya kadar yanar.

8. "Yıldız" sözcüğü "Güneş ve Ay dışında gökyüzünde görülen gök cisimlerinden her biri" anlamında kullanılırken zamanla "Herkesçe çok sevilen, mesleğinde parlayan sanatçı" anlamında da kullanılmaya başlanmıştır. Hatta bu sözcük günümüzde "sinema, televizyon sanatçısı" anlamını da karşılar olmuştur.

Bu parçada anlatılan durum aşağıdakilerden hangisiyle ilgilidir?

- A) Anlam genişlemesi
- B) Anlam daralması
- C) Anlam iyileşmesi
- D) Anlam kötüleşmesi

9. Aşağıdaki cümlelerin hangisinde geçen ikileme diğerlerinden farklı şekilde oluşmuştur?

- A) Arkadaşlarımızla okulda acı tatlı günler geçirdik.
- B) İrili ufaklı taşları toplayıp kavanoza doldurdu.
- C) Hasta olduğu için geceleyin doğru dürüst uyumamış.
- D) Köy yolunda çamurlara bata çıka yürüyorduk.

10. Aşağıdaki dizelerin hangisinde altı çizili söz grubu isim tamlamasıdır?

- A) Bir kalın perdeydi geceler mutsuz, buruşuk.
- B) Her sabah ufuklardan mavi şarkılar gelir.
- C) Gözümün önünden mevsimler geçer.
- D) Gelmedi hiç senden ses, kara bahtım.

11. "Gölün üstünden turna katarları geçiyordu." cümlesinin öge dizilişi aşağıdakilerin hangisinde doğru verilmiştir?

- A) Belirtili nesne-Özne-Yüklem
- B) Dolaylı tümleş-Özne-Yüklem
- C) Zarf tümleci-Belirtisiz nesne-Yüklem
- D) Belirtisiz nesne-Dolaylı tümleş-Yüklem

12. Aşağıdakilerden hangisi yapıcı sıralı cümledir?

- A) İnsanlar için bir şeyler yapmaya çalışanlara saygı duyardı.
- B) Bazı arkadaşlarımız bu habere inanmak istememişler.
- C) İstanbul, depremden korunmak için önlemlerini alıyor.
- D) Söylenenleri dikkatle dinliyor, unutmamak için not alıyordu.

13. Aşağıdakilerden hangisi isim cümlesidir?

- A) Şehir merkezine beş dakikada vardık.
- B) Yurdunun taşına toprağına derin derin baktı.
- C) Parktaki salıncaklar çiçeklerle süslenmişti.
- D) En eski uygarlıkların izleri bu topraklardadır.

14. Aşağıdaki cümlelerden hangisinin yüklemi haber kiplerinden biriyle çekimlenmemiştir?

- A) İşleri uzayınca son otobüsü de kaçırmış.
- B) Yarışmada dereceye girenlere ödülleri dağıtıldı.
- C) İnsanların düşüncelerine değer vermelisin.
- D) Yarın akşam annemle sinemaya gideceğiz.

15. Aşağıdaki cümlelerin hangisinde amaç-sonuç ilişkisi vardır?

- A) Hiç kimse bu manzara karşısında duyarsız kalamazdı.
- B) Ustalar, işlerini bir an evvel bitirmek için durmadan çalışıyordu.
- C) Karşı kıyıya geçince kendini daha huzurlu hissetti.
- D) Yaşlı adam bitkin adımlarla hastaneye doğru yürüyordu.

16. Aşağıdaki cümlelerin hangisinde anlatım bozukluğu vardır?

- A) Babanızı tanıyoruz ve güveniyoruz.
- B) Buranın manzarası çok güzel ama havası kirli.
- C) Öğretmen yüzüme gülümseyerek baktı.
- D) Ayşe ve ben bu akşam tiyatroya gideceğiz.

17. Aşağıdakilerden hangisi bir paragrafın giriş cümlesi olabilir?

- A) Sanatçı eserini oluştururken gerçeklerden hareket eder.
- B) Bu dergiler, çoğu meselenin toplumsal boyutunu ele almıyor.
- C) Oysa yazar, gazetede ki köşesinden okura sesleniyor.
- D) Ama bu, gelecekte onun satsal değerine gölge düşürür.

18. Sebze ve meyveler, sağlığımız için çok faydalıdır; "doğal eczane" olarak adlandırılabilir. Dünyanın farklı yerlerinde yapılan yüzlerce çalışma, bize daha iyi bir hayatın gizli hazinelerinin sebze ve meyvelerde bulunduğunu gösteriyor. Örneğin bir araştırma, özellikle muz ve kayısının kan basıncını düşürdüğünü gösteriyor. Kilo fazlalığı konusunda yapılan araştırmalar da düzenli sebze ve meyve tüketmenin sağlıklı kiloda kalmanın güvencesi olduğunu gösteriyor.

Bu parçada sebze ve meyvelerle ilgili aşağıdakilerden hangisine değinilmemiştir?

- A) Birçok araştırmaya konu olduğuna
- B) Fazla yemenin insana zarar verdiğine
- C) İnsan sağlığı için çok yararlı olduğuna
- D) Kilo kontrolüne yardımcı olduğuna

1. OTURUM

(407) DİL VE ANLATIM – 7

19. Çarşı her zaman karanlık, serin ve kalabalık olurdu. Çarşının bir sürü kapısı vardı. Bu kapılar; güvercinli cami avlularına, çay bahçelerine, çok katlı apartmanlara, yapraklarını döken bir küme ağaçlığa, daracık sokaklara, yıkık surlara, gürültülü duraklara açılırdı. Demek ki her biri ayrı bir mevsime açıldı kapıların. Ölümsüz kocaman bir yapı demekti bu da.

Bu paragrafın çeşidi aşağıdakilerden hangisidir?

- A) Olay paragrafı
B) Betimleme (Tasvir) paragrafı
C) Düşsel (Fantastik) paragraf
D) Düşünce (Fikir) paragrafı

20. Yabancı dillerden alınan kelimelerle konuşulmaya başlandı toplumda. Türkçe her bakımdan yabancı kelimelerle kuşatılıyor. Caddelerimiz, iş yerlerimiz yabancılaşmış yabancılara yaklaşmakta. ----

Bu parçanın sonuna anlam akışına göre aşağıdaki cümlelerden hangisi getirilmelidir?

- A) Türkçenin hâkimiyeti görülüyor cadde ve sokaklarda.
B) Kelimelerin kullanım sıklığı çok dikkat çekiyor.
C) Çünkü cadde ve iş yeri isimleri yabancı sözcüklerden oluşuyor.
D) Toplumumuz az sayıda kelime ile konuşuyor.

1. Aşağıdakilerden hangisi sanatsal metinlerin özelliklerinden değildir?

- A) Kullanılan dile dikkat edilir, üslup kaygısı vardır.
B) Hayallere ve mecaz anlatımlara yer verilir.
C) Okuyucuya bilgi vermek amacıyla yazılır.
D) Gerçekler kurgulanarak anlatılır.

2. Sanatta, bilimde, politikada veya başka alanlarda tanınmış kişilerin yaşamlarını anlatan yazı türüne ---- denir.

Bu cümlede boş bırakılan yere aşağıdakilerden hangisi getirilmelidir?

- A) biyografi B) hikâye
C) roman D) masal

3. I. Aktör: Tiyatro oyunundaki kadının oyuncu.
II. Jest: Rol gereği yapılan el, kol ve vücut hareketleri.
III. Perde: Oyunun bölümleri.
IV. Adaptasyon: Dekora yardımcı olan küçük eşyalar.
Numaralanmış tiyatro terimlerinden hangileri yanlış açıklanmıştır?

- A) I. ve II. B) I. ve IV.
C) II. ve III. D) III. ve IV.

4. Aşağıdakilerin hangisinde fabl türüyle ilgili bilgi yanlıştır?

- A) Sonunda her zaman bir ahlak dersi vardır.
B) Hem nazım hem nesir biçiminde yazılabilir.
C) Anlatımı yalındır, söz sanatlarına yer verilmez.
D) Öyküleyici ve lirik anlatım türlerinden yararlanır.

5. Aşağıdakilerden hangisi masal türünün özelliklerinden değildir?

- A) Anlatımında genellikle geniş zaman veya öğrenilen geçmiş zaman kipi kullanılır.
B) Yer ve zaman kavramları belirsizdir.
C) Zıt durumların temsilcisi olan kişilerin mücadelelerinden söz edilir.
D) Genellikle manzum şeklinde yazılır.

6. Aşağıdaki fabl-masal karşılaşmalarından hangisi yanlıştır?

- A) Fabllar masallara göre daha kısadır.
B) Fabllar genellikle manzum şekilde kaleme alınır, masallar ise genellikle düzyazı şeklindedir.
C) Masallar tekerleme ile başlar, fabllar ise tekerleme ile başlar.
D) Masalın sonuç bölümünde olayın ana düşüncesini ifade eden yargılar varken fabllarda bu özellik yoktur.

7. Yaşanmış ya da yaşanabilecek olay ya da durumların kişi, yer ve zaman unsurlarına bağlı kalınarak kısaca anlatıldığı edebî türe ---- denir.

Bu cümlede boş bırakılan yere aşağıdakilerden hangisi getirilmelidir?

- A) masal B) hikâye
C) tiyatro D) fabl

8. Aşağıdakilerden hangisi durum hikâyesinin temsilcilerindedir?

- A) Ömer Seyfettin
B) Refik Halit Karay
C) Memduh Şevket Esendal
D) Reşat Nuri Güntekin

1. OTURUM

9. Aşağıdakilerden hangisi olay hikâyesinin özelliklerinden değildir?

- A) Belirli kişiler ve bir olay üzerine hikâye kurulur.
- B) Hikâye planına uyulmaz, belli bir sonucu yoktur.
- C) Olay, kişi, mekân ilişkisi okuyucuda gerçeklik duygusu uyandırır.
- D) Olay, zamana göre mantıklı bir sıralama ile verilir.

10. Aşağıdakilerden hangisi gözlemci anlatıcının özelliklerinden değildir?

- A) Kişilerin duygu ve düşüncelerini eylemlerinden çıkarır.
- B) Üçüncü tekil şahıs ağızyla konuşur.
- C) Olayları dışardan gözlemleyen bir şahit konumundadır.
- D) Kahramanların kafalarından geçenleri anlatır.

11. Aşağıdakilerden hangisi edebiyatımızın ilk yerli romanıdır?

- A) Taaşşuk-ı Talat ve Fitnat
- B) İntibah
- C) Hasan Mellah
- D) Felatun Bey'le Rakım Efendi

12. - Sanatı bir tür oyun olarak görür.
- Romanın kurmaca olduğunu savunur.
- Farklı anlatım tekniklerine aynı metin içinde yer verilir.
- Çok seslilik ve çoğulculuk önemlidir.

Bu özellikler aşağıdakilerden hangisine aittir?

- A) Klasik roman
- B) Postmodernist roman
- C) Natüralist roman
- D) Romantik roman

13. Aşağıdakilerden hangisi dünya edebiyatında durum hikâyeciliğinin kurucusu kabul edilir?

- A) Anton Çehov
- B) Guy de Maupassant
- C) La Fontaine
- D) Gustave Flaubert

14. Aşağıdakilerden hangisi komedinin özelliklerinden değildir?

- A) Konular çağdaş toplumdan ve günlük hayattan alınır.
- B) Koro ve diyalog bölümlerinden oluşur.
- C) Acı veren olaylar sahnede seyirciye gösterilmez.
- D) Üç birlik kuralına uyulur.

15. Edebiyatımızda yazılan ilk tiyatro eseri aşağıdakilerden hangisidir?

- A) Gülünç Kibarlar
- B) Venedik Taciri
- C) Atlılar ve Kurbağalar
- D) Şair Evlenmesi

16. Aşağıdakilerin hangisinde bilgi yanlışlığı vardır?

- A) Opera, operet ve bale müzikli tiyatro türlerindedir.
- B) Komedideki kişiler çoğunlukla yüksek tabakadan seçilir.
- C) Meddahlık hareketten çok ses taklidi, jest ve mimiklere dayanır.
- D) Dramatik bir eserde konunun ana bölümlerinden her birine perde denir.

17. Aşağıdakilerden hangisi halk şiiri nazım biçimlerinden değildir?

- A) Koşma
- B) Semai
- C) Mani
- D) Gazel

18. Tanrım şahid, duracağım sözümde Milletimin sevgileri özümde Vatanımdan başka şey yok gözümde Yar yatağın düşman almaz; giderim!
Bu dizelerin teması aşağıdakilerden hangisidir?

- A) Sevgi
- B) Kahramanlık
- C) Ölüm
- D) Tabiat

19. I. Duyguları coşkulu bir dille anlatan şiidir.
II. Kır ve çoban yaşayışını dile getirir.
III. Nazım hâlinde yazılmış oyunlar için kullanılır.

Numaralanmış bilgilerle aşağıdaki şiir türleri eşleştirildiğinde hangisi dışarıda kalır?

- A) Didaktik şiir
- B) Lirik şiir
- C) Dramatik şiir
- D) Pastoral şiir

20. Aşağıdakilerin hangisinde mecazımürsele örnek yoktur?

- A) Saatlerdir bereket yağıyor topraklara.
- B) Daha çok Yahya Kemal'i okurdu.
- C) Yemekleri her zaman lezzetliydi.
- D) Çayı ocakta unutmuştu.

(408) DİL VE ANLATIM – 8

1. Aşağıdakilerden hangisi sözlü anlatım türlerinden biri değildir?

- A) Açık oturum
- B) Sempozyum
- C) Forum
- D) Söyleşi

2. Yazar, düşünür ve sanatçıların veya kendi alanında uzman kişilerin bir konuyu açıklamak, tanıtmak, öğretmek amacıyla yaptıkları konuşmalara - - - - denir.

Bu cümlede boş bırakılan yere aşağıdakilerden hangisi getirilmelidir?

- A) münazara
- B) forum
- C) konferans
- D) açık oturum

3. Aşağıdakilerden hangisi münazaranın özelliklerinden biri değildir?

- A) Genellikle üçer ya da dörder kişilik iki grup kurulur.
- B) Münazara yapacak kişileri değerlendirecek bir jüri seçilir.
- C) Münazara başkanı fikirleriyle tartışmacıları yönlendirir.
- D) Karşı fikirlere saygı duyma ve güzel konuşma alışkanlığı kazandırır.

1. OTURUM

4. Bir kitabın veya derginin kişi, konu, yer adı vb. bakımından içindekileri yer numarasıyla belirten ve eserin arkasında yer alan alfabetik listeye - - - - denir.

Bu cümlede boş bırakılan yere aşağıdakilerden hangisi getirilmelidir?

- A) dipnot
B) indeks
C) kaynakça
D) dokümantasyon

5. Aşağıdakilerden hangisi konferansı veren kişinin yapması gerekenlerden biri değildir?

- A) Konuyu dağıtmamalıdır.
B) Ses tonunu konuşmaya göre ayarlamalıdır.
C) Elindeki notları dinleyiciye okumalıdır.
D) Dinleyicinin dikkatini uyanık tutmaya çalışmalıdır.

6. - - - - kararlar bilimsel değer taşıması yönüyle basılı materyal hâline dönüştürülerek kamuoyuyla paylaşılır.

Bu cümlede boş bırakılan yere aşağıdakilerden hangisi getirilmelidir?

- A) Açık oturumda
B) Sempozyumda
C) Münazarada
D) Forumda

7. Forum türüyle ilgili aşağıdaki bilgilerden hangisi yanlıştır?

- A) Dinleyicilerin konu üzerinde daha aktif düşünmelerini sağlar.
B) Yönetimi güç bir toplantıdır.
C) Amaç karara varmak değil, konuyu değişik anlayışlarla ortaya koymaktır.
D) Bütün halkı kapsayan geniş bir toplantı olarak uygulanır.

8. Aşağıdakilerden hangisi konferansın özelliklerinden değildir?

- A) Açıklayıcı, öğretici anlatım türleri kullanılır.
B) Sonuç bölümünde konuyla ilgili genel yargılar söylenir.
C) Özgün düşünceler dile getirilir.
D) Konuları güncel olaylarla sınırlıdır.

9. Aşağıdakilerden hangisi açık oturumun özelliklerinden değildir?

- A) Konuşmacı sayısının altı kişiyi geçmemesi tercih edilir.
B) Başkan, dinleyicilere konuyu belirtip konuşmacıları tanıtır.
C) Sonuç bölümünde bir karara varma amaçlanır.
D) Konuşmalar herkesin anlayabileceği bir dille yapılır.

10. Aşağıdakilerden hangisi bir münazara konusu olamaz?

- A) Çok gezen mi çok okuyan mı daha çok bilir?
B) Televizyonun Türk ailesine etkileri nelerdir?
C) Okumak insanı mutlu kılar mı?
D) Eğitimde tek tip kıyafet gerekli midir?

11. Aşağıdakilerden hangisi bir münazarada tartışmacıların uyması gereken davranışlardan biri değildir?

- A) Düşünceleri anlaşılır, açık ve kısa söylemek
B) Ortaya çıkan sonucu hoşgörüyle karşılamak
C) Konuşmaları ilgiyle dinlemek
D) Daha önceden verilen örnekleri tekrarlamak

12. Bilimsel yazıların - - - - bölümünde makalede geçen her türlü terim ve kısaltmanın ne anlama geldiği açıklanmalıdır.

Bu cümlede boş bırakılan yere aşağıdakilerden hangisi getirilmelidir?

- A) giriş
B) özet
C) başlık
D) sonuç ve tartışma

13. Aşağıdakilerden hangisi sempozyumun özelliklerinden biri değildir?

- A) Önceden belirlenmiş bir konuşmacı grubu bulunur.
B) Her konuşmacı konunun farklı bir yönünü inceler.
C) Bir gün sürebileceği gibi birkaç gün de sürebilir.
D) Oturumlarda başkan bulunması zorunlu değildir.

14. Farklı görüşlere sahip kişilerin bir araya gelerek bir konuyu çözümlmek, kendi görüşlerini açıklamak, karşı tarafın zayıf noktalarını aramak için yaptıkları söyleşmeye - - - - denir.

Bu cümlede boş bırakılan yere aşağıdakilerden hangisi getirilmelidir?

- A) forum
B) münazara
C) konferans
D) sempozyum

15. Aşağıdakilerden hangisi bilimsel yazılarla ilgili terimlerden biri değildir?

- A) Kaynakça
B) Dipnot
C) Ara cümle
D) İndeks

16. Bilimsel yazılarda dil ağırlıklı olarak hangi işlevde kullanılır?

- A) Göndergesel
B) Alıcıyı harekete geçirme
C) Heyecana bağlı
D) Kanalı kontrol

17. Türk edebiyatında ilk makale yazarı aşağıdakilerden hangisidir?

- A) Namık Kemal
B) İbrahim Şinasi
C) Agâh Efendi
D) Falih Rıfkı Atay

18. Aşağıdakilerden hangisi bilimsel yazı olarak değerlendirilir?

- A) Hikâye özetleri
B) Şiir tahlilleri
C) Günlük metinleri
D) Toplantı özetleri

1. OTURUM

(414) TÜRK EDEBİYATI – 4

19. Bilimsel yazılarla makale türünün karşılaştırıldığı aşağıdaki yargılardan hangisi yanlıştır?

- A) Her iki türde de anlatılanların kanıtlanması gerekmektedir.
- B) Bilimsel yazılar makaleye göre daha geniş bir araştırmaya dayanır.
- C) Bilimsel yazılar her kesime hitap ederken makale okuyucusunun belli bir birikime sahip olması gerekir.
- D) İki türde de amaç okuyucuyu bilgilendirmektir.

20. Öğrenme, insanın doğumundan ölümüne kadar devam eden bir süreçtir. Ancak çocukluk ve gençlik süreci, eğitimin yoğun ve etkin olduğu dönemlerdir. Bu dönemlerde verilen eğitim, çocuğa ve gence toplum içinde insanlarla uyumlu yaşama becerisi kazandırmaya, başka bir deyişle yaşama sanatını kazandırmaya yöneliktir.

Bu parça için aşağıdakilerden hangisi söylenemez?

- A) Sözcükler daha çok yan ve mecaz anlamıyla kullanılmıştır.
- B) Dil göndergesel işlevde kullanılmıştır.
- C) Bilimsel bir metinden alınmıştır.
- D) Açıklayıcı anlatımdan yararlanmıştı.

1. Aşağıdakilerden hangisi Kutadgu Bilig ile ilgili doğru bir bilgi değildir?

- A) Türk dilinde yazılmış ilk eserdir.
- B) İlk öğretici manzumedir.
- C) Aruzla yazılan ilk eserdir.
- D) Karahanlılar Dönemi'nin ilk edebiyat ürünüdür.

2. Atabetü'l Hakâyık ile ilgili aşağıda verilen bilgilerden hangisi doğru değildir?

- A) Yükneklî Edip Ahmet tarafından yazılmıştır.
- B) "Mutluluk veren bilgi" anlamına gelen öğretici bir eserdir.
- C) Eser Allah'a, Peygamber'e, dört halifeye ve eserin sunulduğu Bey'e övgü ile başlar.
- D) Eserde edep, ahlak, töre ve dinî konularda öğütler verilmiştir.

3. "Kutadgu Bilig alegorik(sembolik) bir eserdir."

Aşağıdaki açıklamaların hangisi Kutadgu Bilig'in bu özelliği ile ilgilidir?

- A) Kutadgu Bilig beyitlerle yazılmış ve her beyit kendi içinde uyaklanmıştır.
- B) Öğretici bir eser olduğu için süslü ve sanatlı bir dille yazılmamıştır.
- C) İyi bir devlet yönetiminin nasıl olması gerektiğini anlatan bir siyasetnamedir.
- D) Eserde Ay Toldı "saadet"i, Ögdiilmiş "anlayış"ı temsil eder.

4. Divanü Lügati't Türk ile ilgili aşağıdaki bilgilerden hangisi yanlıştır?

- A) Sözlük ve dil bilgisi kitabıdır.
- B) Eserde Türk boylarını gösteren bir harita yer almaktadır.
- C) Türklere Farsça öğretmek amacıyla kaleme alınmıştır.
- D) Eser Türklerin yaşadığı coğrafyalardaki yirmi yıllık bir araştırmanın sonunda yazılmıştır.

5. (I) Divan-ı Hikmet XII. yüzyıl Orta Asya Türkçesinin en etkili ve güzel eserlerinden biridir. (II) Hoca Ahmet Yesevi'nin "hikmet" adını verdiği şiirlerinin toplandığı bir eserdir. (III) Öğretici bir eser olan Divan-ı Hikmet, olgun insanın özelliklerini, var oluşumuzun nedenlerini anlatır. (IV) Hikmetler, gazel nazım biçimiyle ve aruz ölçüsüyle yazılmıştır. **Bu parçada numaralanmış cümlelerin hangisinde Divan-ı Hikmet adlı eser ve "hikmet"ler hakkında yanlış bilgi vardır?**

- A) I. B) II. C) III. D) IV.

6. XIII. yüzyılın ikinci yarısı ile XIV. yüzyılın başlarında yaşamıştır. Medrese eğitimi görmüş, Farsçanın yaygın olarak kullanıldığı dönemlerde duygu ve düşüncelerini sade Türkçe ile halkın anlayabileceği tarzda söylemiş bir şairdir. İlahi adı verilen şiirlerinde Allah aşkını, insan sevgisini ve hoşgörüyü işlemiştir. "Risale'tün Nushiyye" adlı bir eseri vardır.

Bu parçada hakkında bilgi verilen şair aşağıdakilerin hangisidir?

- A) Mevlâna
- B) Yunus Emre
- C) Hacı Bektaşî Veli
- D) Ahmed Fakih

7. "Bilginler Sultanı" olarak anılır. İrk, din ayrımı gözetmeden tüm insanlığı kucaklayarak birliği, hoşgörüyü, iyiliği öğütler. En ünlü eseri "Mesnevi" adlı eseridir. Tasavvuf, Allah, aşk, dünya hakkındaki görüşlerini, Allah'a ulaşmanın yollarını, ayetler, hadisler, şiir ve öykülerle anlatır Mesnevi'sinde. Mesnevi pek çok dile çevrilmiş bir eserdir.

Bu parçada hakkında bilgi verilen sanatçı aşağıdakilerin hangisidir?

- A) Mevlâna
- B) Yunus Emre
- C) Sultan Veled
- D) Hacı Bektaşî Veli

1. OTURUM

8. Aşağıdaki eser- yazar eşleştirmelerinden hangisi yanlıştır?

- A) Leyla vü Mecnun – Fuzuli
- B) Hüsn ü Aşk – Şeyh Galip
- C) Harname – Nabi
- D) Garibname – Âşık Paşa

9. I. 16. yüzyıl divan şairidir. “Şairler Sultanı” adıyla anılmıştır. Şiirlerini söz ve anlam oyunları ile süslemiştir.
- II. 17. yüzyıl divan şairidir. Öğretici şiirleri ile tanınır. “Hayriyye” adlı öğretici bir mesnevisi vardır.
- III. 18. yüzyıl divan şairidir. Şiirlerinde dönemin İstanbul yaşantısını yansıtmış ve Lale Devri ile özdeşleşmiştir. Şarkı nazım şekliyle tanınan bir şairdir.

Numaralanmış cümlelerde aşağıdaki şairlerin hangisiyle ilgili bilgi verilmemiştir?

- A) Şeyhî
- B) Baki
- C) Nabi
- D) Nedim

10. Aşağıdakilerin hangisi divan edebiyatının özelliklerinden değildir?

- A) Eserler Arapça ve Farsçanın etkisinde sanatlı bir dille yazılmıştır.
- B) Genellikle tam ve zengin uyak kullanılmıştır.
- C) Gazel, kaside gibi Arap ve Fars edebiyatından alınan nazım şekilleri tercih edilmiştir.
- D) Konu bütünlüğüne önem verilmiş ve şiirlerde konu birliği sağlanmıştır.

11. Dede Korkut Hikâyeleri için aşağıdakilerin hangisi söylenmez?

- A) 13. yüzyılda Dede Korkut tarafından yazılmıştır.
- B) Oğuz Türklerinin savaşları, sosyal hayatı, gelenek ve görenekleri anlatılır.
- C) Çoğunlukla yiğitlik havası eser, kimi kahramanlar olağanüstü özelliklere sahiptir.
- D) Her hikâyenin sonunda Dede Korkut ortaya çıkar, hikâyede anlatılan olayı sonuçlandırır ve görüşlerini söyler.

12. XIV. yüzyıl klasik edebiyat şairlerindedir. İran edebiyatındaki incelikleri Türk edebiyatına başarıyla uygulamıştır. Tasavvuf düşüncesinin yaygın olduğu XIV. yüzyılda din dışı konularda şiirler yazmıştır. Kaside, gazel ve mesnevilerinde aşk duygusunu işlemiştir. Kendisinden sonra gelenler üzerinde büyük etkisi olan şairin “Cemşid ü Hurşid” adlı bir mesnevisi vardır.

Bu parçada hakkında bilgi verilen divan şairi aşağıdakilerden hangisidir?

- A) Fuzuli
- B) Nabi
- C) Nef’i
- D) Ahmedi

13. Aşağıdakilerin hangisi divan şiirinde beyitlerle kurulan nazım şekillerinden değildir?

- A) Gazel
- B) Kaside
- C) Rubai
- D) Mesnevi

14. I. Divan edebiyatında öykü ve romanın yerini tutan bir nazım şeklidir. Her beytin dizeleri kendi arasında uyaklıdır.
- II. Dört mısralık bendlerden oluşan divan edebiyatı nazım şeklidir. Bend sayısı 3-7 arasında değişir. Genellikle aşk, sevgi, yergi, sitem, özlem konularında yazılır.
- III. Bendlerle kurulan nazım şeklidir. Her bendde terkihane ve vasıta adı verilen iki bölüm vardır. Terkihane bölümü en az beş beyitten, vasıta ise bir beyitten oluşur.

Numaralanmış cümlelerde aşağıdaki nazım şekillerinin hangisi hakkında bilgi yoktur?

- A) Kaside
- B) Murabba
- C) Mesnevi
- D) Terkih-i bend

15. Kasidelerde asıl konuya giriş bölümüne - - - - , kasidenin sunulduğu kişinin övüldüğü bölüme - - - - , şairin kendisini övdüğü bölüme - - - - adı verilir.

Bu cümlede boş bırakılan yere sırasıyla aşağıdakilerden hangileri getirilmelidir?

- A) nesip- tegazzül- girizgah
- B) girizgah- methiye- fahriye
- C) girizgah- tegazzül- fahriye
- D) teşbib- medhiye- taç

16. Aşağıdakilerin hangisi anonim halk edebiyatının özelliklerinden değildir?

- A) Eserler âşık adı verilen şairler tarafından saz eşliğinde oluşturulmuştur.
- B) Sade, yalın bir konuşma diliyle söylenmiştir.
- C) Şiirlerde dörtlük nazım birimi ve hece ölçüsü kullanılmıştır.
- D) Aşk, ölüm, hasret, yiğitlik, gurbet gibi konular işlenmiştir.

17. Arasam yâri bulurdum
Yoluna kurban olurum
Bir gün görmesem ölürdüm
Gör neyledi zaman şimdi

Bu şiirin nazım türü aşağıdakilerin hangisidir?

- A) Koçaklama
- B) Taşlama
- C) Güzelleme
- D) Ağıt

18. Aşağıdakilerin hangisinde verilen kavram yanlış açıklanmıştır?

- A) Mutasavvıf: Halk şairi, ozan
- B) Hamse: Beş mesnevinin bir araya getirildiği eserler
- C) Mahlas: Şairin şiirde kullandığı adı ya da takma adı
- D) Pendname: Öğüt kitabı

19. Aşağıdakilerin hangisi dinî-tasavvufî Türk şiiri nazım türlerinden biridir?

- A) Koşma
- B) Semai
- C) Şathiye
- D) Kaside

1. OTURUM

20. "Tezkire"nin tanımı aşağıdakilerin hangisinde doğru yapılmıştır?

- A) Zamanın olaylarının günü gününe yazıldığı defterlerdir.
- B) Bir gezinin gezip gördüğü yerlerin, insanların, yaşayışını, tarihini, medeniyetini anlatmış eserlerdir.
- C) Tasavvufu öğretmek, Allah'a ulaşmanın yollarını göstermek amacıyla yazılan eserlerdir.
- D) Divan edebiyatında çeşitli devirlerde yaşayan şairlerin hayatları ve eserleri hakkında bilgi veren kitaplardır.

(417) TÜRK EDEBİYATI – 7

1. Millî Edebiyat Dönemi'nde sade dil ve hece ölçüsünü kullanan sanatçılar, Cumhuriyet Dönemi'nin ilk sanatçı kuşağını oluşturdu. Şiirde Millî Edebiyat akımını en tipik şekilde devam ettiren - - - - oldu. Bunların ortak özelliği halk şiiri geleneğinden yararlanarak yurt güzelliklerini dile getiren duygusal şiirler yazmış olmalarıdır.

Bu parçada boş bırakılan yere aşağıdakilerden hangisi getirilmelidir?

- A) Beş Hececiler
- B) Yedi Meşaleciler
- C) Garipçiler
- D) Maviciler

2. Birkaç bahar, bir o kadar kış Ömürdür: uzun, kısa.
Ne ise göreceğin
Kismet ne kadarsa.

Bu dizelerde Ziya Osman Saba aşağıdaki konulardan hangisini ele almıştır?

- A) Aşk
- B) Kader
- C) Gurbet
- D) Yaşama sevinci

3. Aşağıdakilerden hangisi Cumhuriyet Dönemi gelişmeleri arasında yer almaz?

- A) Harf Devrimi'nin yapılması
- B) Türk Dil Kurumunun açılması
- C) İlk özel gazetenin çıkarılması
- D) Çok partili sisteme geçilmesi

4. Yorgundum, uzakta güller vardı
Yeni bir gül oluyordu bir gülün oynamasından
Bir ay yeni bir ay yapıyordu oda ya girdiğini
Biz Bob'u çok seviyoruz, Bob çünkü umutsuzun biri

Bu dizeler biçim ve içerik özellikleri dikkate alındığında aşağıdaki şairlerden hangisine aittir?

- A) Faruk Nafiz Çamlıbel
- B) Necip Fazıl Kısakürek
- C) Edip Cansever
- D) Ziya Gökalp

5. Aşağıdakilerden hangisi Cumhuriyet Dönemi hikâye ve romanı için doğru bir bilgidir?

- A) Kahramanlar belirli bir zümreden seçilmiştir.
- B) Sade ve anlaşılır bir dil kullanılmıştır.
- C) Teknik yönden oldukça başarısızdır.
- D) Belirli konuların dışına çıkılmamıştır.

6. Aşağıdakilerden hangisi Cumhuriyet Dönemi'nin ilk yıllarındaki en başarılı oyun yazarıdır?

- A) Müsahipzade Celâl
- B) Necip Fazıl Kısakürek
- C) Ahmet Muhip Dırancı
- D) Oktay Rifat Horozcu

7. Anadolu köy seyirlik oyunlarını ve geleneksel popüler halk tiyatrosunu çağdaş sanatsal etkinlikleri besleyecek önemli kaynaklar olarak görmüştür. "Koçyiğit Köroğlu, Bir Pazar Günü, Köşebaşı" tiyatro türündeki önemli eserlerindedir.

Bu parçada tanıtılan sanatçı aşağıdakilerden hangisidir?

- A) Ahmet Kutsi Tecer
- B) Fazıl Hüsnü Dağlarca
- C) Abdurrahim Karakoç
- D) Memduh Şevket Esenal

8. Türk hikâye ve romanı 1930'lara kadar Millî Edebiyat etkisinde gelişmiştir.

Aşağıdakilerden hangisi bu doğrultuda eser veren sanatçılardan değildir?

- A) Yakup Kadri Karaosmanoğlu
- B) Halide Edip Adıvar
- C) Cevat Şakir Kabaağaçlı
- D) Reşat Nuri Güntekin

9. Cumhuriyet Dönemi'nde mizah edebiyatı güldürürken düşündürmeyi amaçlayan bir mizah anlayışıyla yeni boyutlara ulaştı.

Aşağıdakilerden hangisi bu alanın gelişmesine katkı sağlayan sanatçılar arasında gösterilemez?

- A) Aziz Nesin
- B) Nurullah Ataç
- C) Rifat Ilgaz
- D) Muzaffer İzgü

10. Aşağıdakilerden hangisi İkinci Yeni akımının sanatçıları arasında sayılmaz?

- A) Cemal Süreyya
- B) Turgut Uyar
- C) Edip Cansever
- D) Cahit Külebi

11. Aşağıdakilerden hangisi deneme için doğru bir bilgi değildir?

- A) Her türlü konu üzerinde yazılabilir.
- B) Katı kuralları yoktur.
- C) Samimi bir dil kullanılır.
- D) Kesin hükümlere varılır.

12. Tanpınar; vezin, kafiye ve nazım şekillerini şiirin gerçek bünyesine sonradan eklemlenen, dışarıdan gelme lüzumsuz bir ilave olarak görmez. Tersine bunları şiirin düzenini oluşturmak, mükemmeliyet dediğimiz kısılcımları çıkartmak için zekânın madde ile mücadelesini temin eden esaslı bir unsur olarak görür.

Bu parça hangi makale türüne örnektir?

- A) Siyasal
- B) İktisadi
- C) Edebî
- D) Askerî

1. OTURUM

13. Aşağıdaki eser-sanatçı eşleştirmelerinden hangisi yanlıştır?

- A) Fatih Harbiye – Peyami Safa
- B) Kuyucaklı Yusuf – Sabahattin Ali
- C) Benim Adım Kırmızı – Orhan Pamuk
- D) Anayurt Oteli – Yaşar Kemal

14. Edebiyatımızda ilk makale aşağıdaki gazetelerin hangisinde yayımlanmıştır?

- A) Tercüman-ı Ahval
- B) Takvim-i Vekayi
- C) Ceride-yi Havadis
- D) Tercüman-ı Hakikat

15. Aşağıdakilerden hangisi makalenin özelliklerinden değildir?

- A) Anlatım yalın ve yoğun olmalıdır.
- B) Söz oyunlarına sıkça başvurulmalıdır.
- C) Düşünceler inandırıcı bir şekilde ortaya konmalıdır.
- D) Okuyucunun eğitim düzeyi dikkate alınmalıdır.

16. Aşağıdaki eserlerden hangisi tür olarak diğerlerinden farklıdır?

- A) Tuna'dan Batı'ya
- B) Bizim Akdeniz
- C) Karalama Defteri
- D) Yurttan Yazılar

17. Bir saat sonra Gürgenpınar'a vardık. Burası yarı yol. İsmi gibi kendi de güzel bir köy; hülyalı bir yer, keyifli keyifli ağaçlar ve kıyıya bağlanmış iki üç yüz tonluk bir sürü gemi... Gemilerin sudaki akisleri yüzünden gövdeleri bir kat daha büyümüş görünüyor.

Bu parça aşağıdaki türlerden hangisine örnektir?

- A) Makale
- B) Fıkra
- C) Eleştiri
- D) Gezi yazısı

18. Toplumdaki hızlı değişimin ekonomik nedenlerden çok ahlaki sonuçları üzerinde durmuştur. Manevi değerlere sahip çıkılması gerektiğini eserlerinde dile getiren sanatçının "Tohum, Bir Adam Yaratmak" önemli eserlerindedir.

Bu parçada tanıtılan sanatçı aşağıdakilerden hangisidir?

- A) Necip Fazıl Kısakürek
- B) Asaf Halet Çelebi
- C) Reşat Nuri Güntekin
- D) Sabahattin Kudret Aksal

19. Aşağıdakilerden hangisi geleneksel Türk tiyatrosu çeşitlerinden değildir?

- A) Meddah
- B) Karagöz
- C) Komedi
- D) Orta oyunu

20. Aşağıdakilerden hangisi Yedi Meşaleciler topluluğunun üyeleri arasında yer almaz?

- A) Reşat Nuri Güntekin
- B) Ziya Osman Saba
- C) Yaşar Nabi Nayır
- D) Kenan Hulusi Koray

(418) TÜRK EDEBİYATI – 8

1. İçinden tanırım ben o elleri
Onlar ki zahirde viran olurlar
Ardıçlı dağları çamlı belleri
Aşanlar seyrine hayran olurlar
Aşağıdaki sanatçılardan hangisi bu şiirin şekil ve içeriğine benzer şiirler yazmamıştır?

- A) Faruk Nafiz Çamlıbel
- B) Ercüment Behzat Lav
- C) Kemalettin Kamu
- D) Ömer Bedrettin Uşaklı

2. Tam otuz yıl saatim işlemiş ben
durmuşum;
Gökyüzünden habersiz, uçurtma
uçurmuşum...

Bu dizelerdeki hâkim duygu aşağıdakilerin hangisidir?

- A) Pişmanlık
- B) Yalnızlık
- C) Umutsuzluk
- D) Öfke

3. Hecenin beş şairinden biridir. Anadolu edebiyatının en tanınmış şairidir. Şair; Anadolu'nun acısına, yerinde ve kuvvetli çizgilerle dokunarak halkımızın incelik ve üstünlüklerini gösteren bir edebiyat oluşturmuştur. Anadolu'yu anlattığı şiirlerinde dört yüz yıl önceki saz şairi Karacaoğlan'ın şiirlerinin çıkış noktası olan yurt güzelliklerine ait yerli çizgiler bulunur. Şiirlerindeki uyumu ölçü ve uyak ile sağlamıştır. Aşırı ve özentili abartmalara başvurmadan içten duygularla, anlaşılır bir dille söylemiştir şiirlerini. "Çoban Çeşmesi" en tanınmış şiirlerindedir.

Bu parçada hakkında bilgi verilen sanatçı aşağıdakilerin hangisidir?

- A) Ahmet Kutsi Tecer
- B) Arif Nihat Asya
- C) Faruk Nafiz Çamlıbel
- D) Fazıl Hüsnü Dağlarca

4. Aşağıdaki şiir - şair eşleştirmelerinin hangisi yanlıştır?

- A) Bingöl Çobanları - Kemalettin Kamu
- B) Hikâye - Cahit Külebi
- C) Merdiven - Ahmet Haşim
- D) Karadut - Yahya Kemal Beyatlı

5. Aşağıdakilerin hangisi Garipçilerin şiirdeki ilkelerinden biri değildir?

- A) Günlük hayatı, küçük sorunları, küçük tasa ve sevinçleri işlemek
- B) Ölçü, uyak gibi biçimsel kalıpları kırmak, gelenekten kopmak
- C) Süslü, söz oyunlarına dayalı, imgeli bir dili yeğlemek
- D) Nükteye yer vermek, gülmeden, şaşırtmacadan yararlanmak

6. Aşağıdaki sanatçılardan hangisi Garip Hareketi içinde yer almıştır?

- A) Melih Cevdet Anday
- B) Ahmet Kutsi Tecer
- C) Necip Fazıl Kısakürek
- D) Ahmet Arif

1. OTURUM

7. Dayanmak onlara düştü
Onların hâline acımak bize
Seninle daha çok konuşuruz
Böyle birbirimizden uzak
Böyle kendi kendimize

Topraktan ekmek
Pancardan şeker
Tezgahtan çulâki

Ama gene insanların ekmeği yok
Ama gene çocuklar kemik veremi

Bu şiir içerik ve şekil özellikleri bakımından hangi şiir anlayışının özelliklerini taşımaktadır?

- A) Öz şiir
B) Serbest nazım ve toplumcu şiir
C) Millî Edebiyat zevk ve anlayışını sürdüren şiir
D) İkinci Yeni şiiri

8. **Aşağıdakilerden hangisi İkinci Yeni sanatçılarının özelliklerinden değildir?**

- A) Dadaizm ve sürrealizm akımlarından etkilenmişlerdir.
B) Anlaşılabilirlik yerine anlamca kapalılığı, imgeci söyleyişi benimsemişlerdir.
C) Şiirde önceliğin biçimde olduğunu söylemişler, biçimi önemli ve gerekli görmüşlerdir.
D) Yaşama sevinci, hayata bağlılık, tabiat güzellikleri, aşk gibi temalara sıkça yer vermişlerdir.

9. **Aşağıdaki sanatçılardan hangisi İkinci Yeni şiir anlayışıyla eser vermemiştir?**

- A) Turgut Uyar B) Edip Cansever
C) Ece Ayhan D) Attila İlhan

10. Aşk ile var olmuş devr-i âlem
Sevgi armağanı verilen selam
Adını satıra yazınca kalem
Parmağım, tırnağım, elim titriyor

Bu şiir halk şiiri nazım türlerinden hangisine örnektir?

- A) Koçaklama B) Güzelleme
C) Taşlama D) Ağıt

11. Toplum hayatını anlatmak, mahallî bir edebiyat yapmak, sanatının en önemli özelliğidir. Kuvvetli gözlemleriyle, hayat sahnelerini, olayları, konuşmaları bütün özellikleri ve canlılıklarıyla eserlerine yansıttı. İslam duyarlılığı ile millî kaygıları birleştirdi. "Seyfi Baba" adlı şiiri, konuşma dilinin şiire girdiği ilk örnekler arasında yer aldı. Şiirlerini "Safahat" adlı eserinde topladı.

Bu parçada hakkında bilgi verilen sanatçı aşağıdakilerden hangisidir?

- A) Necip Fazıl Kısakürek
B) Yahya Kemal Beyatlı
C) Mehmet Akif Ersoy
D) Sezai Karakoç

12. "Anadolucu" ya da "memleketçi" edebiyata çıkardıkları ortak kitapla tepkilerini göstermişlerdir. Türk şiirini yeni ufuklara açmayı amaçlamışlar fakat biçim ve özdene yenilik getiremedikleri için başarılı olamamışlardır. Topluluk üyelerinden yalnız Ziya Osman Saba topluluk dağıldıktan sonra da şiir yazmaya devam etmiştir.

Aşağıdaki sanatçılardan hangisi bu parçada tanıtılan topluluk içinde yer almaz?

- A) Yusuf Ziya Ortaç
B) Kenan Hulusi Koray
C) Cevdet Kudret Solok
D) Yaşar Nabi Nayır

13. Özü biçimden kurtararak serbest şiir olarak nitelenen ve şiirden ölçü, uyak gibi bağları atan bir akımın başlatıcısı oldu. "Kuvayi Milliye Destanı" ve "Memleketimden İnsan Manzaraları" adlı eserlerinde hayatı ve toplumu daha geniş ve gerçekçi açıdan ele aldı.

Bu parçada hakkında bilgi verilen sanatçı aşağıdakilerden hangisidir?

- A) Enver Gökçe
B) Ercüment Behzat Lav
C) Rifat Ilgaz
D) Nazım Hikmet

14. Yalnızca şiirin öne çıkarıldığı, "asıl olan üründür" anlayışının egemen olduğu bir dönemdir. Bu dönemde şiirle yeniden yüzleşilir. İnsani duyarlılık ve evrensel deneyimler şiirin gözde değerleri olur. Türk şiir birikiminin yeniden değerlendirilmesinin yanında İkinci Yeni şiirine özgü uzak çağrışımlar önem kazanır. Yapı ve söyleyişe içerikten fazla önem verilir. Şiirin düzyazıya yaklaşmasına imkân veren temalar öne çıkarılır. Büyük metropollerde yaşayan kişilerin şehre ve insana yabancılaşması, gelenek ve teknoloji arasında sıkışıp kalmaları, alt kimlik gruplarının ortaya çıkması en belirgin temaları oluşturur.
- Aşağıdakilerden hangisi bu dönemde eser veren sanatçılardandır?**

- A) Haydar Ergülen
B) Orhan Veli Kanık
C) Ahmet Kutsi Tecer
D) Turgut Uyar

15. **Aşağıdakilerin hangisi anlatmaya bağlı metin türlerindenidir?**

- A) Deneme B) Tiyatro
C) Roman D) Eleştiri

16. Roman, kahramanın okuduğu bir kitabın etkisinde kalarak daha önceki değerlerinden uzaklaşmasını ve yolculuğa çıkmasını konu alır. Kahraman bu yolculuk sırasında "kendi olmaya" çalışır. Yazar, kişinin kendini bulma sürecindeki yozlaşmadan, aydındaki aşağılık duygusuna, yitip giden değerlere kadar çok yönlü bir hesaplasmaya girer ve sorunun çözümünün Doğu'ya özgü değerlerle Batı akılcılığının sentezi neticesinde mümkün olacağı yargısına ulaşır. Anlatılanlar belli bir zamanda değil, kahramanın iç dünyasında başlar ve biter. Mekân ise "Viranbağ" ya da "ışıkta bir ülke" sözleriyle nitelenen simgesel bir ülkedir.

Bu parçada tanıtılan roman aşağıdakilerden hangisidir?

- A) Cevdet Bey ve Oğulları
B) Yeni Hayat
C) Tutunamayanlar
D) Anayurt Oteli

1. OTURUM

(421) FİZİK – 1

17. Aşağıdaki yazar – eser eşleştirmelerinin hangisi yanlıştır?

- A) Orhan Pamuk - Kara Kitap
B) Sabahattin Ali - Kuyucaklı Yusuf
C) Yusuf Atılgan - Aylak Adam
D) Peyami Safa - Tutunamayanlar

18. Mehmet Rauf'un Eylül romanıyla ilk örneğini verdiği psikolojik roman, Cumhuriyet Dönemi'nde Peyami Safa, Samet Ağaoğlu gibi yazarların eserleriyle yeni örneklerle kavuştu.

Aşağıdaki eserlerin hangisi bu açıklamada adı geçen yazarların birine ait psikolojik bir romandır?

- A) Küçük Paşa
B) Dokuzuncu Hariciye Koğuşu
C) Karabibik
D) Memleket Hikâyeleri

19. Aşağıdakilerin hangisi modernizmi esas alan eserlerdendir?

- A) Anayurt Oteli
B) Sodom Ve Gomora
C) Yeşil Gece
D) Hüküm Gecesi

20. Cumhuriyet Dönemi Türk edebiyatında önemli bir gelişme de deneme ve eleştiri türlerinde görülmüştür. Önceki dönemlerde bir yan uğraş olarak ele alınan deneme ve eleştiri - - - - gibi Cumhuriyet Dönemi usta yazarlarının bu türleri uğraş edinmelerıyla gelişip yaygınlaşmıştır.

Bu parçadaki boşluğa aşağıdaki sanatçılardan hangisi getirilemez?

- A) Nurullah Ataç
B) Cemil Meriç
C) Ahmet Kutsi Tecer
D) Suut Kemal Yetkin

1. Işıkla ilgili olaylar ve ışığın madde ile etkileşimi fizik biliminin hangi alt alanı ile ilgilidir?

- A) Isı B) Hareket
C) Optik D) Dalgalar

2. Aşağıdakilerden hangisi nicel bir veridir?

- A) Hafta sonu evlerde temizlik yapılır.
B) Öğrencilerin yarıyıl tatili bitti.
C) Antalya yazın çok sıcak olur.
D) Isparta'dan Ankara'ya otobüs ile 7 saatte gidilir.

3. Temel büyüklükler ile ilgili verilen ölçme araçları aşağıdakilerden hangisinde doğru eşleşmiştir?

A)	Temel büyüklük	Ölçme aracı
	Uzunluk	Terazi
	Zaman	Kronometre
	Işık şiddeti	Fotometre

B)	Temel büyüklük	Ölçme aracı
	Uzunluk	Kronometre
	Zaman	Termometre
	Işık şiddeti	Terazi

C)	Temel büyüklük	Ölçme aracı
	Uzunluk	Metre
	Zaman	Kronometre
	Işık şiddeti	Fotometre

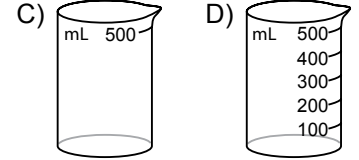
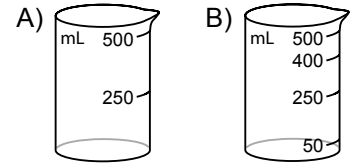
D)	Temel büyüklük	Ölçme aracı
	Uzunluk	Metre
	Zaman	Terazi
	Işık şiddeti	Ampermetre

4. Aşağıdakilerden hangisi vektörel büyüklüktür?

- A) Suyun özkütlesi 1 g/cm³tür.
B) Emel masayı sola doğru 20 N'luk kuvvet ile çekiyor.
C) Laboratuvardaki cam bardağın hacmi 250 cm³tür.
D) Sınıftaki en zayıf öğrenci 34 kg'dır.

5. Emel mutfakta yapacağı kurabiye için 200 mL sıvı yağ kullanmalıdır.

Buna göre aşağıdaki hangi cam kabı kullanırsa 200 mL yağı en doğru ölçer?



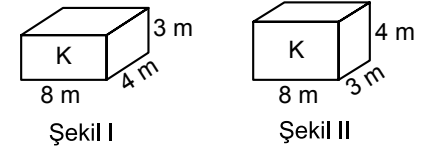
6. 3 ton toz şeker kaç miligram (mg) toz şeker eder?

- A) 3.10⁹ B) 3.10⁶
C) 3.10¹² D) 3.10³

7. Bir kenarı 4 cm olan küp şeklindeki K cisminin kütlesi 6,4 gram olduğuna göre K'nın özkütlesi kaç g/cm³tür?

- A) 4 B) 0,3 C) 0,1 D) 2

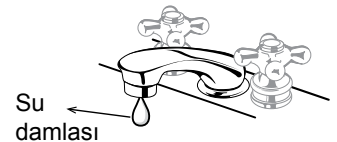
8. Bir K cismi şekil I'deki gibi konulduğunda dayanıklılığı 4D oluyor.



Buna göre cisim şekil II'deki gibi konulduğunda dayanıklılığı kaç D olur?

- A) 3 B) 8 C) 9 D) 12

9.



Şekildeki su damlasının musluğun ağızındaki görüntüsü akışkanların hangi etkileşim olayları ile ilgilidir?

- A) Kohezyon - Kohezyon
B) Adezyon - Kohezyon
C) Yüzey gerilimi - Adezyon
D) Kılcallık - Kılcallık

1. OTURUM

10. Maddenin katı, sıvı, gaz ve plazma halleri için aşağıdaki hangi eşleştirme yanlış verilmiştir?

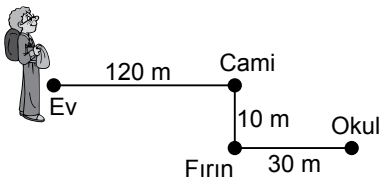
- A) Katı → Gümüş
Sıvı → Su
Gaz → Hidrojen
Plazma → Şimşek
- B) Katı → Altın
Sıvı → Süt
Gaz → Şimşek
Plazma → Azot
- C) Katı → Elmas
Sıvı → Yağmur
Gaz → Oksijen
Plazma → Güneş
- D) Katı → Tahta
Sıvı → Su
Gaz → Helyum
Plazma → Yıldızlar

11. Çevremizdeki hareketler, öteleme, dönme ve titreşim olarak sınıflandırılır.

Buna göre aşağıdakilerden hangisi öteleme hareketine örnek verilebilir?

- A) Kaydıraftan kayan çocuk
B) Sarkacın salınımı
C) Uçan arının kanatlarının hareketi
D) Vantilatör pervanesinin hareketi

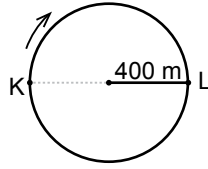
12. Ömer evi ile okul arasında şekildeki yolu izleyip aynı yoldan eve dönüyor.



Buna göre Ömer'in yer değiştirmesi kaç metredir?

- A) 320 B) 160 C) 40 D) 0

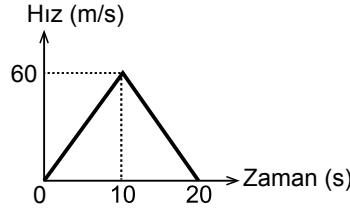
13.



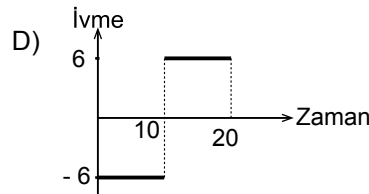
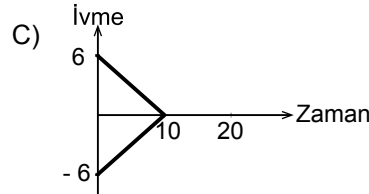
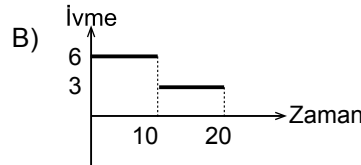
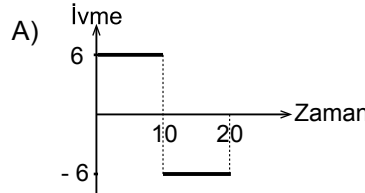
Yarıçapı 400 m olan çembersel yarış pistinin K noktasından L noktasına gelen araç kaç metre yol almıştır? ($\pi = 3$)

- A) 2400 B) 1200
C) 800 D) 600

14.



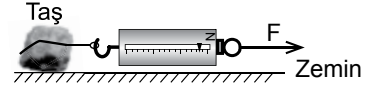
Hız - zaman grafiği verilen hareketlinin ivme - zaman grafiği aşağıdakilerden hangisidir?



15. Arabasıyla 90 km'lik yolu 1 saatte giden sürücünün hızı kaç km/saat'tir?

- A) 100 B) 90 C) 120 D) 140

16. Ağırlığı 20 N olan taş yatay zeminde dinamometre ile çekiliyor ve dinamometre 1,6 N gösterdiğinde taş harekete geçiyor.



Buna göre taşla zemin arasındaki sürtünme kuvveti kaç Newton'dur?

- A) 3,2 B) 1,6
C) 18,4 D) 21,6

17. Aşağıdakilerden hangisi skaler bir büyüklüktür?

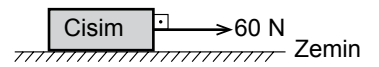
- A) Kuvvet B) İvme
C) Zaman D) Hız

18. 90 m/s sabit hızla giden arabadaki sürücü frene basarak hızını 20 saniyede 40 m/s'ye düşürüyor.

Buna göre arabanın ivmesi kaç m/s^2 'dir?

- A) 4 B) 3,5 C) 2,5 D) 2

19. Şekildeki cisme 60 N'luk kuvvet uygulandığında $3 m/s^2$ 'lik ivme ile hareket ediyor.



Buna göre cismin kütlesi kaç kilogramdır? (Sürtünme yok)

- A) 180 B) 90 C) 40 D) 20

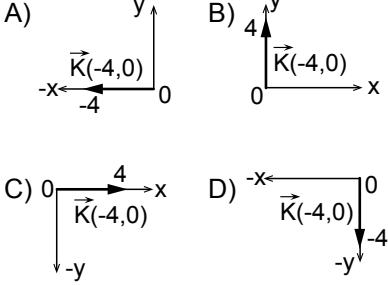
20. I. Demiryolunda hızlanan tren
II. Kırmızı ışığı görünce yavaşlayan otomobil
III. Düz bir yolda sabit hızla giden kamyon

Araçların hangileri ivmeli hareket yapmıştır?

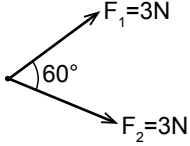
- A) I ve II B) II ve III
C) Yalnız III D) Yalnız I

1. OTURUM

1. $\vec{K}(-4, 0)$ vektörünün koordinat sistemindeki vektör çizimi aşağıdakilerden hangisidir?

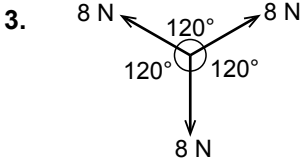


2. Şekildeki noktasal cisme $F_1=3$ N, $F_2=3$ N büyüklüğünde iki kuvvet etki ediyor.



Buna göre bu kuvvetlerin bileşkesi kaç Newton'dur? ($\cos 60^\circ=1/2$)

- A) $4\sqrt{3}$ B) $3\sqrt{3}$
C) $2\sqrt{3}$ D) 3



Bir noktada kesişen şekildeki kuvvetlerin bileşkesi kaç Newton'dur?

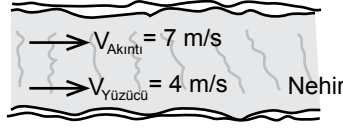
- A) 24 B) 16 C) 8 D) 0



Şekildeki gibi doğu yönüne giden A aracında bulunan sürücü durgun B aracını hangi yöne hangi hızla gidiyor görür?

- A) 40 m/s, doğu
B) 80 m/s, batı
C) 40 m/s, batı
D) 80 m/s, doğu

5.



Suya göre hızı 4 m/s olan bir yüzücü akıntı hızı 7 m/s olan bir nehirde akıntı ile aynı yönde yüzerse yüzücünün yere göre hızı kaç m/s olur?

- A) 11 B) 7 C) 4 D) 3

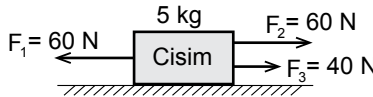
6. Hava ortamında hareket eden bir uçakla ilgili;

- I. Hava akımı uçakla aynı yönde ise uçağın hızı artar.
II. Hava akımı uçağın hareket yönünün tersi yönde ise uçağın hızı azalır.
III. Hava akımı uçağın hareket doğrultusundan farklı bir doğrultuda ise, uçak kendi hızı ve havanın hızının bileşkesi yönünde hareket eder.

yargılardan hangileri doğrudur?

- A) Yalnız I B) I ve II
C) II ve III D) I, II ve III

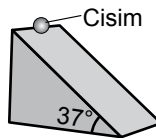
7. Sürtünmesiz ortamda durmakta olan 5 kg lık cisme üç kuvvet şekildeki gibi aynı anda etki ediyor.



Buna göre cismin 4 saniye sonraki hızı kaç m/s dir?

- A) 64 B) 32 C) 24 D) 12

8. Sürtünmesiz eğik düzlemin tepesinde bulunan cisim durgun halden harekete başlayıp aşağıya doğru iniyor.



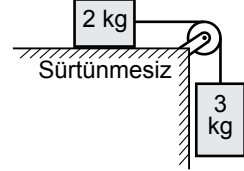
Buna göre cismin ivmesi kaç m/s^2 dir? ($g=10m/s^2$, $\sin 37^\circ=0,6$)

- A) 6 B) 16 C) 20 D) 22

9. Sürtünmesiz düzlemde durmakta olan 6 kg kütleli cisme 72 N'luk kuvvet yere paralel etki etmektedir. Buna göre cismin ivmesi kaç m/s^2 olur?

- A) 36 B) 24 C) 12 D) 8

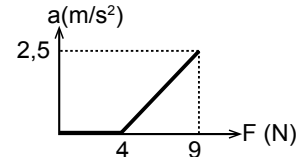
10.



Şekildeki sürtünmesiz sistem serbest bırakıldığında sistemin ivmesi kaç N/kg olur? ($g=10$ N/kg)

- A) 6 B) 12 C) 18 D) 20

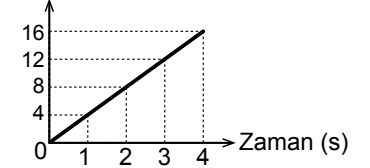
11. Yatay düzlemdeki durgun cisme uygulanan kuvvetle cismin ivmesi arasındaki ilişkiyi gösteren grafik şekildeki gibidir.



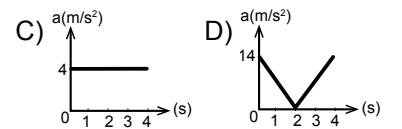
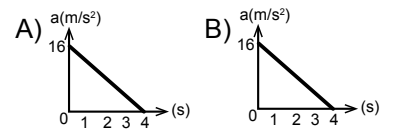
Buna göre cisimle yüzey arasındaki sürtünme katsayısı kaçtır? ($g=10$ N/kg)

- A) 0,5 B) 0,4 C) 0,2 D) 0,1,

12. Hız (m/s)



Hız-zaman grafiği şekildeki gibi olan bir aracın ivme-zaman grafiği aşağıdakilerden hangisi gibidir?

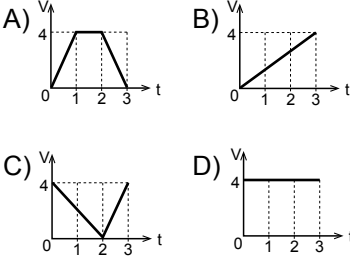


1. OTURUM

13. Düz bir pistte durgun halden hareket geçen kumandalı oyuncak arabanın hız değerleri tabloda verilmiştir.

Zaman (s)	0	1	2	3
Hız (m/s)	0	4	4	0

Buna göre oyuncak arabanın hız-zaman grafiği aşağıdakilerden hangisidir?



14. Trafik lambalarına 20 m/s hızla yaklaşan araç sürücüsü lambanın kırmızıya döndüğünü görünce frene basıyor ve 5 saniye sonra araç duruyor.

Buna göre aracın yavaşlama ivmesi kaç m/s^2 dir?

- A) 15 B) 10 C) 8 D) 4

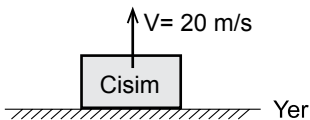
15. Hava direnci ile ilgili;

- I. Cismin yüzeyinin cinsine bağlıdır.
II. Cismin yüzeyinin büyüklüğüyle doğru orantılıdır.
III. Cismin hızının karesi ile ters orantılıdır.

yargılarından hangileri doğrudur?

- A) Yalnız I B) I ve II
C) II ve III D) I, II ve III

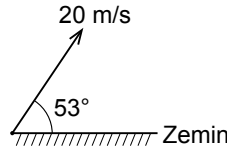
16. Sürtünmesiz bir ortamda şekildeki cisim 20 m/s hızla yerden yukarı doğru düşey olarak atılıyor.



Buna göre cismin 2 s sonra yerden yüksekliği kaç metredir? ($g = 10 m/s^2$)

- A) 30 B) 20 C) 15 D) 5

17. Hava sürtünmesinin ihmal edildiği bir ortamda okçu okun yayını gererek oku şekildeki gibi atıyor.



Buna göre okun uçuş süresi kaç saniyedir? ($g = 10 m/s^2$
 $\sin 53^\circ = 0,8$, $\cos 53^\circ = 0,6$)

- A) 6,4 B) 4,5 C) 3,2 D) 1,6

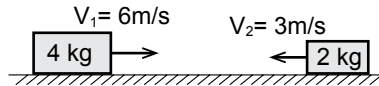
18. Yatay düzlemde duran bir cisme şekildeki gibi 4 s süresince 60 N luk kuvvet etki ediyor.



Buna göre cisme verilen itme kaç N.s dir?

- A) 600 B) 400 C) 240 D) 78

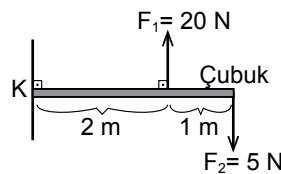
19. Yatay ve sürtünmesiz düzlemde şekildeki hızlarla kayan cisimler çarpışarak kenetleniyor.



Buna göre çarpışmadan sonraki ortak hızları kaç m/s dir?

- A) 3 B) 6 C) 4,5 D) 2

20. Şekildeki ağırlıksız çubuğa F_1 ve F_2 kuvvetleri etki etmektedir.



K noktasına göre bileşke tork kaç N.m dir? (Sürtünmeler önemsizdir.)

- A) 50 B) 45 C) 30 D) 25

(432) KİMYA – 2

1. Aşağıda bazı kimyasal türlerin sembol ve formülleri verilmiştir.

Buna göre verilenlerden hangisi atom sınıfı bir kimyasal türdür?

- A) O B) O^{2-}
C) O_2 D) H_2O

2. Aşağıdakilerin hangisi kimyasal türler arası zayıf etkileşimlerden biridir?

- A) İyonik bağ
B) Kovalent bağ
C) Dipol- dipol bağları
D) Metalik bağ

3. I. ${}_3Li$
II. ${}_6C$
III. ${}_8O$
IV. ${}_{16}S$

Verilen atomlardan aşağıdakilerin hangi ikisi arasında iyonik bağ oluşur?

- A) II ve III B) I ve III
C) II ve IV D) III ve IV

4. Aşağıda verilen taneciklerin hangisinde atomlar arasında apolar kovalent bağ bulunur? (${}_1H$, ${}_6C$, ${}_8O$, ${}_9F$, ${}_{11}Na$, ${}_{17}Cl$)

- A) NaCl B) H_2O
C) CCl_4 D) F_2

- 5.

	Molekül	Lewis gösterimi
I.	H_2	$H \cdot \cdot H$
II.	O_2	$O :: O$
III.	N_2	$:N :: N:$

Yukarıda bazı moleküllere ait verilen Lewis gösterimlerinden hangileri doğrudur?

(${}_1H$, ${}_7N$, ${}_8O$)

- A) Yalnız II B) I ve II
C) I ve III D) II ve III

1. OTURUM

6. CH_4 , C_2H_6 , C_3H_8 gibi yapısında sadece C ve H elementleri içeren organik bileşikler apolar yapıli moleküllerden oluşur.

Buna göre aynı şartlar altında bulunan;

- I. CH_4
II. C_2H_6
III. C_3H_8

moleküllerinin kaynama noktalarının karşılaştırılması aşağıdakilerden hangisi gibi olur?

- A) I > II > III B) I > III > II
C) II > I > III D) III > II > I

7. H_2O bileşiğinin kendi molekülleri arasında görülen baskın etkileşim türü aşağıdakilerin hangisinde doğru verilmiştir? (1H , 8O)

- A) London kuvvetleri
B) Hidrojen bağları
C) İyon - dipol etkileşimleri
D) Dipol - dipol etkileşimleri

8. • Elmanın çürümesi
• Bitkilerin fotosentez yapması
• Demirin paslanması
• Ekmeğin küflenmesi

Yukarıda verilen olaylardan kaç tanesi kimyasal değişimdir?

- A) 4 B) 3 C) 2 D) 1

9. I. $\text{H}_2(\text{g}) + \text{Cl}_2(\text{g}) \rightarrow 2\text{HCl}(\text{g})$
II. $\text{N}_2(\text{g}) + 3\text{H}_2(\text{g}) \rightarrow 2\text{NH}_3(\text{g})$
III. $2\text{KClO}_3(\text{k}) \rightarrow 2\text{KCl}(\text{k}) + 3\text{O}_2(\text{g})$

Yukarıdaki tepkimelerden hangileri oluşum (sentez) tepkimesidir?

- A) Yalnız I B) I ve II
C) II ve III D) I, II ve III

10. Aşağıdakilerden hangisi yanma tepkimesidir?

- A) $\text{HCl} + \text{NaOH} \rightarrow \text{NaCl} + \text{H}_2\text{O}$
B) $2\text{BaO}_2 \rightarrow 2\text{BaO} + \text{O}_2$
C) $\text{CH}_4 + 2\text{O}_2 \rightarrow \text{CO}_2 + 2\text{H}_2\text{O}$
D) $\text{H}_2 + \text{Cl}_2 \rightarrow 2\text{HCl}$

11. Bir gazın kapalı bir kaptayapmış olduğu basınç 380 mmHg olarak ölçülmüştür. **Buna göre bu gazın basıncı kaç atm'dir?**

- A) 0,5 B) 5
C) 38 D) 380

12. • $127^\circ\text{C} = 400\text{K}$
• $233\text{K} = -40^\circ\text{C}$
• $600\text{K} = 327^\circ\text{C}$
• $-23^\circ\text{C} = 250\text{K}$

Yukarıda verilen sıcaklık dönüşümlerinden kaç tanesi doğrudur?

- A) 1 B) 2 C) 3 D) 4

13. 3,2 gram CH_4 gazı kaç moldür? ($\text{H} = 1\text{ g/mol}$, $\text{C} = 12\text{ g/mol}$)

- A) 0,2 B) 0,5
C) 2 D) 5

14. 2 mol CO_2 gazında bulunan molekül sayısı aşağıdakilerin hangisinde doğru gösterilmiştir? (Avogadro sayısı = $6,02 \cdot 10^{23}$)

- A) $6,02 \cdot 10^{23}$
B) $12,04 \cdot 10^{23}$
C) $18,06 \cdot 10^{23}$
D) $36,12 \cdot 10^{23}$

15. Gazlarla ilgili aşağıdaki açıklamalardan hangisi yanlıştır?

- A) Sabit hacimde belirli bir miktardaki gazın basıncı, mutlak sıcaklığı ile doğru orantılı olarak değişir.
B) Sabit basınçta belirli bir miktardaki gazın hacmi, mutlak sıcaklığı ile doğru orantılı olarak değişir.
C) Sabit sıcaklıktaki belirli bir miktardaki gazın basıncı, hacmi ile doğru orantılı olarak değişir.
D) Sabit sıcaklıktaki belirli bir miktardaki gazın basıncı artarsa ideallikten uzaklaşır.

16. 27°C 'de sabit hacimli kapalı bir kaptaybulunan bir miktar gazın basıncı 0,2 atm'dir.

Bu gazın sıcaklığı kaç $^\circ\text{C}$ 'ye çıkarılırsa basıncı 0,4 atm olur?

- A) 127 B) 227
C) 300 D) 327

17. - - - - küçük olan sıvılar daha hızlı akar.

Yukarıdaki cümlede boş bırakılan (- - - -) yere aşağıdakilerden hangisi getirilmelidir?

- A) Yüzey gerilimi
B) Viskozitesi
C) Adhezyon kuvvetleri
D) Sıcaklığı

18. Aşağıdakilerden hangisi amorf bir katıdır?

- A) Plastik
B) NaCl (sodyum klorür)
C) $\text{I}_{2(\text{k})}$ (iyot)
D) C (grafit)

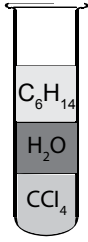
19. Saf bir maddenin gaz halden sıvı hale geçmesi olayı aşağıdakilerin hangisinde doğru verilmiştir?

- A) Kırağılaşma
B) Süblimleşme
C) Yoğuşma
D) Donma

20. Aşağıdakilerden hangisi sıvının denge buhar basıncının bağlı olduğu faktörlerden biridir?

- A) Sıvı miktarı
B) Sıvının bulunduğu kabın şekli
C) Sıvının yüzey alanı
D) Sıcaklık

1.



Yukarıdaki tüpte konumları gösterilen sıvılar için;

- I. C_6H_{14} ve CCl_4 'ün molekülleri apolardır.
- II. Yoğunluğu en fazla olan CCl_4 'tür.
- III. Karışım tek fazlıdır.

yargılarından hangileri doğrudur?
($1H, 6C, 8O, 17Cl$)

- A) I ve II B) I ve III
C) II ve III D) I, II ve III

2. Kütlece % 30'luk 300 gram NaCl sulu çözeltisinde kaç gram çözülmüş NaCl bulunur?

- A) 30 B) 60 C) 90 D) 120

3. 40 gram NaOH katısının 162 gram saf suda tamamen çözünmesi sonucu hazırlanan çözeltideki NaOH'ın mol kesri aşağıdakilerden hangisidir?
($H_2O = 18 \text{ g/mol}$, $NaOH = 40 \text{ g/mol}$)

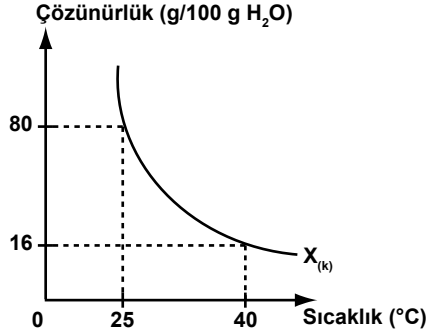
- A) $\frac{3}{4}$ B) $\frac{1}{2}$ C) $\frac{1}{5}$ D) $\frac{1}{10}$

4. Na^+ iyon derişimi 0,5 M olan NaF sulu çözeltisinin 2 litresindeki çözülmüş NaF miktarı kaç gramdır?
($F = 19 \text{ g/mol}$, $Na = 23 \text{ g/mol}$)

- A) 10,5 B) 21
C) 42 D) 84

1. OTURUM

5. X tuzunun çözünürlük - sıcaklık grafiği aşağıdaki gibidir.



Buna göre $25^\circ C$ 'de hazırlanan 180 gramlık doymun çözelti $40^\circ C$ 'ye ısıtılırsa kaç gram X tuzu çöker?

- A) 16 B) 32 C) 48 D) 64

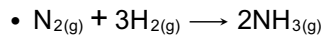
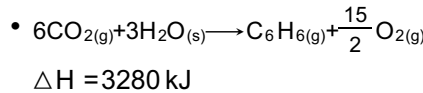
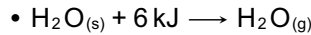
6. İzokorik sistemler ile ilgili aşağıdakilerden hangisi doğrudur?

- A) Basıncı sabittir.
B) Hacmi sabittir.
C) Sıcaklığı sabittir.
D) Sıcaklığı ve basıncı sabittir.

7. Aşağıdaki tepkimelerin hangisinin ΔH° değeri oluşan bileşiğin standart şartlardaki oluşum ısısı (ΔH_{ol}°) değerine eşittir?

- A) $CH_4(g) + 2O_2(g) \rightarrow CO_2(g) + 2H_2O(s)$
B) $C_{(grafit)} + O_2(g) \rightarrow CO_2(g)$
C) $CO(g) + \frac{1}{2}O_2(g) \rightarrow CO_2(g)$
D) $SO_2(g) + \frac{1}{2}O_2(g) \rightarrow SO_3(g)$

8. $CH_4(g) + O_2(g) \rightarrow CO_2(g) + H_2O(s) + 890 \text{ kJ}$



$$\Delta H = -92 \text{ kJ}$$

Yukarıda verilen tepkimelerden kaç tanesi endotermik tepkimedir?

- A) 1 B) 2 C) 3 D) 4

9. $A(g) + 2B(g) \rightarrow 3C(g) + D(g)$ tepkimesinde 100 saniye içerisinde 2M A gazı harcanıyor.

Bu süre içerisinde A gazının ortalama harcanma hızı kaç M/s'dir?

- A) 0,02 B) 0,2
C) 20 D) 200

10. $CaCO_3(k) \rightarrow CaO(k) + CO_2(g)$

Tepkimesinin hız bağıntısı aşağıdakilerin hangisinde doğru verilmiştir?

- A) $V = k \cdot [CaCO_3]$
B) $V = k \cdot [CaO] \cdot [CO_2]$
C) $V = k \cdot \frac{[CaO] \cdot [CO_2]}{CaCO_3}$
D) $V = k$

11. $N_2(g) + 3H_2(g) \rightarrow 2NH_3(g)$ tepkimesinin derecesi aşağıdakilerin hangisinde doğru verilmiştir?

- A) 4 B) 3 C) 2 D) 1

12. $S(k) + O_2(g) \rightleftharpoons SO_2(g)$

Tepkimesinin denge bağıntısı (K_c) aşağıdakilerin hangisinde doğru verilmiştir?

- A) $K_c = \frac{[SO_2]}{[S] \cdot [O_2]}$
B) $K_c = [SO_2]$
C) $K_c = \frac{[SO_2]}{[O_2]}$
D) $K_c = [O_2]$

13. $2NO_2(g) \rightleftharpoons N_2O_4(g)$

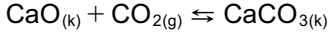
Tepkimesi için K_c ile K_p arasındaki ilişki aşağıdakilerin hangisinde doğru verilmiştir?

- A) $K_p = K_c \cdot (RT)$
B) $K_p = K_c \cdot (RT)^{-1}$
C) $K_p = K_c \cdot (RT)^2$
D) $K_p = K_c \cdot (RT)^{-2}$

1. OTURUM

14. $\text{CaCO}_{3(k)} \rightleftharpoons \text{CaO}_{(k)} + \text{CO}_{2(g)}$ tepkimesinin belli bir sıcaklıkta denge sabiti (K_c) değeri 100 olarak hesaplanmıştır.

Buna göre aynı sıcaklıkta;



tepkimesinin denge sabiti (K_c) değeri aşağıdakilerin hangisinde doğru verilmiştir?

- A) $\frac{1}{100}$ B) 1
C) 100 D) 1000

15. Asit ve baz çözeltileri ile ilgili aşağıda verilen açıklamalardan hangisi yanlıştır?

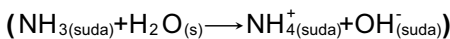
- A) Ortamdaki H^+ iyon sayısı arttıkça pH azalır.
B) $\text{H}^+ > \text{OH}^-$ ise çözelti asidiktir.
C) $\text{pH} > \text{pOH}$ ise çözelti asidiktir.
D) $\frac{\text{OH}^-}{\text{H}^+} > 1$ ise çözelti baziktir.

16. 25°C 'de hazırlanan sulu bir çözeltide bulunan H^+ iyon derişimi $1 \cdot 10^{-5}$ M ise çözeltinin pOH değeri aşağıdakilerin hangisinde doğru verilmiştir?

- A) 3 B) 5 C) 8 D) 9

17. 25°C 'de NH_3 için K_b değeri $1 \cdot 10^{-5}$ 'dir.

Aynı sıcaklıkta 0,1M NH_3 ile hazırlanan sulu çözeltinin pH değeri aşağıdakilerin hangisinde doğru verilmiştir?



- A) 3 B) 9 C) 11 D) 12

18. Aşağıdaki seçeneklerin hangisindeki tuzun hidrolize uğrayıp uğramayacağı hakkında verilen bilgi yanlıştır?

	Tuz	Asidi	Bazı	Hidroliz olur veya olmaz
A)	NaCl	HCl Kuvvetli asit	NaOH Kuvvetli baz	Hidroliz olur.
B)	NaF	HF Zayıf asit	NaOH Kuvvetli baz	Hidroliz olur.
C)	NH_4Br	HBr Kuvvetli asit	NH_3 Zayıf baz	Hidroliz olur.
D)	KNO_3	HNO_3 Kuvvetli asit	KOH Kuvvetli baz	Hidroliz olmaz.

19. $\text{Pb}(\text{Cl})_2$ tuzunun belli bir sıcaklıkta saf sudaki çözünürlüğü S M'dir.

Buna göre aynı sıcaklıkta $\text{Pb}(\text{Cl})_2$ tuzunun $K_{çç}$ değeri aşağıdakilerin hangisinde doğru verilmiştir?

- A) $K_{çç} = S$ B) $K_{çç} = S^2$
C) $K_{çç} = 2S^2$ D) $K_{çç} = 4S^3$

20. Belli bir sıcaklıkta $K_{çç}$ değeri $1 \cdot 10^{-20}$ olan FeS tuzunun aynı sıcaklıkta saf sudaki çözünürlüğü aşağıdakilerin hangisinde doğru verilmiştir?

- A) $1 \cdot 10^{-5}$ B) $1 \cdot 10^{-10}$
C) $1 \cdot 10^{-20}$ D) $1 \cdot 10^{-40}$

(441) BİYOLOJİ – 1

1. I. Bilimde tek bir bilimsel metot vardır.
II. Bilim insanı tarafından sunulan bilgiler sorgulanabilir olmalıdır.
III. Bilim mutlak doğrular içerdiği için değişken yapıya sahip değildir.

Bilim ve bilim insanı için verilenlerden hangileri doğrudur?

- A) Yalnız I B) Yalnız II
C) I ve III D) II ve III

2. I. Bu arkadaşımız çok kiloludur.
II. Mehmet'in boyu 180 cm'dir.
III. Duvarın rengi yeşildir.
IV. Poşetteki domates üç kilodur.

Verilenler nitel ve nicel gözlem sonuçları şeklinde sınıflandırılırsa aşağıdakilerden hangisi doğru olur?

- | | Nitel Gözlem | Nicel Gözlem |
|----|--------------|---------------|
| A) | I ve III | II ve IV |
| B) | I ve IV | II ve III |
| C) | Yalnız I | II, III ve IV |
| D) | Yalnız II | I, III ve IV |

3. Bozulmuş ekosistemleri doğal koşullarına geri döndürmeye yönelik çalışmalar yapan biyoloji alt bilim dalı aşağıdakilerden hangisidir?

- A) Deniz Biyolojisi
B) Kriminal Biyoloji
C) Restorasyon Ekolojisi
D) Moleküler Biyoloji

4. I. Herbivor
II. Karnivor
III. Omnivor

Heterotrof canlılar besin çeşidine göre yukarıda verildiği gibi ayrılır.

Buna göre I, II ve III uygun örneklerle eşleştirilirse hangisi yanlış olur?

- | | I | II | III |
|----|------|--------|----------|
| A) | İnek | Kurt | İnsan |
| B) | Keçi | Aslan | Evsıçanı |
| C) | Fil | Kaplan | Ayı |
| D) | Kedi | Köpek | Koyun |

1. OTURUM

5. Eşeyli üremede gözlenen olaylar ile ilgili verilenlerden hangisi yanlıştır?

- A) Mayoz bölünme yoluyla gametler oluşur.
- B) Gametlerin birleşmesine döllenme denir.
- C) Tür içinde yeni gen kombinasyonları oluşur.
- D) Oluşan canlılar birbirleriyle aynı kalıtsal yapıda olur.

6. Mineraller için,

- I. Enerji kaynağı olarak kullanılmazlar.
- II. İnsanda en fazla bulunan besindir.
- III. Bitkiler tarafından sentezlenir.

verilenlerden hangileri doğrudur?

- A) Yalnız I
- B) Yalnız II
- C) I ve III
- D) II ve III

7. Aşağıda verilenlerden hangisinin pH'sı 7-14 aralığında değildir?

- A) Deniz suyu
- B) Soda
- C) Mide özsuğu
- D) Amonyak

8. I. Fruktoz
II. Riboz
III. Glikoz
IV. Galaktoz

Verilen monosakkarit çeşitleri 5 C (karbon)'lu ve 6 C'lu olacak şekilde sınıflanırsa aşağıdakilerden hangisi doğru olur?

- | 5 C'lu | 6 C'lu |
|--------------|---------------|
| A) Yalnız I | II, III ve IV |
| B) Yalnız II | I, III ve IV |
| C) I ve II | III ve IV |
| D) I ve III | II ve IV |

9. • Çok sayıda glikozun beta glikozit bağlarıyla bağlanması sonucu oluşur.
• Otçul hayvanların bağırsaklarında yaşayan mikroorganizmalarca sindirilir.
• Zincirler halinde birleşerek bitki hücre çeperini oluşturur.

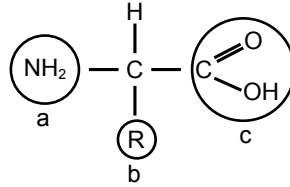
Özellikleri verilen polisakkarit çeşidi aşağıdakilerden hangisidir?

- A) Selüloz
- B) Nişasta
- C) Kitin
- D) Glikojen

10. Yağlarla ilgili olarak seçenelerde verilenlerden hangisi yanlıştır?

- A) Yapısındaki karbon ve hidrojen oranı fazla, oksijen oranı düşüktür.
- B) Parçalanması zor olduğundan ikinci dereceden enerji verici olarak kullanılır.
- C) Tek tip yağ asiti ve çok çeşitte olabilen gliserolün birleşmesiyle oluşur.
- D) Deri altında depolandığında ısı yalıtımı ve mekanik etkilere karşı koruma özelliği vardır.

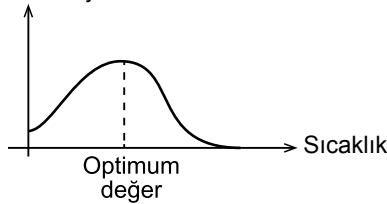
11. Aşağıda bir amino asidin şekli gösterilmiştir:



Buna göre a, b ve c ile ilgili hangisi doğru olur?

- | Amino grubu | Radikal grup | Karboksil grubu |
|-------------|--------------|-----------------|
| A) a | b | c |
| B) a | c | b |
| C) c | b | a |
| D) c | a | b |

12. Reaksiyon hızı



Reaksiyon hızına sıcaklığın etkisiyle ilgili verilen grafik incelendiğinde,

- I. Düşük sıcaklık dereceleri enzimin etkinliğini azaltır.
- II. Yüksek sıcaklıkta enzimin yapısı bozulduğundan görev yapamaz.
- III. Enzimin en iyi çalıştığı değer, optimum değerdir.

İfadelerinden hangileri doğrudur?

- A) Yalnız II
- B) I ve II
- C) I ve III
- D) I, II ve III

13. DNA'nın görevleri ve yapısıyla ilgili olarak aşağıdakilerden hangisi yanlış bir açıklamadır?

- A) Protein sentezini kontrol ederek hücredeki metabolik olayları yönetir.
- B) Hücre bölünmesi sırasında kendini eşleyerek kalıtsal özelliklerin aktarımını sağlar.
- C) Baz, şeker ve fosfata kadar parçalanması için gerekli su miktarı n-2'dir.
- D) Sentezlenirken bir pürin bazının karşısına daima bir pirimidin baz gelir.

14. Bir hücrede enzim sentezi yapılırken aşağıdakilerden hangisinin miktarında artış olur?

- A) DNA
- B) Su
- C) Amino asit
- D) ATP

15. I. Robert Brown
II. T. Schwann
III. R. Virchow

Yukarıda verilen bilim insanlarından hangilerinin hücreleri ilgili çalışması olmuştur?

- A) Yalnız I
- B) Yalnız II
- C) Yalnız III
- D) I, II ve III

16. • Glikoprotein, glikolipit ve lipoproteinlerin sentezlenmesini sağlar.
• Bitkilerde ara lamel oluşumunu sağlar.
• Sindirim enzimi taşıyan lizozomu oluşturur.

Özellikleri verilen hücre organeli aşağıdakilerden hangisidir?

- A) Endoplazmik retikulum
- B) Golgi aygıtı
- C) Sentrozom
- D) Mitokondri

17. Kromoplasttaki renk pigmentleri bitkilere verdikleri renklerle eşleştirilirse aşağıdakilerden hangisi doğru olur?

- | Ksantofil | Karoten | Likopen |
|------------|---------|---------|
| A) Sarı | Turuncu | Kırmızı |
| B) Sarı | Kırmızı | Turuncu |
| C) Turuncu | Kırmızı | Sarı |
| D) Turuncu | Sarı | Kırmızı |

1. OTURUM

(443) BİYOLOJİ – 3

	Özellik	Prokaryot hücreler	Ökaryot hücreler
I.	Çekirdek zarı	Yok	Var
II.	Mitokondri	Var	Var
III.	Ribozom	Yok	Var

Verilen tablo incelendiğinde hangi özellikler doğrudur?

- A) Yalnız I B) I ve II
C) I ve III D) II ve III

19. I. Tübülün proteinlerinden oluşmuştur.
II. İçi boş çubuk şeklindeki yapılarıdır.
III. Hücre içinde sürekli oluşup ayrışabilir.

Verilenlerden hangisi hücre iskeleti elemanlarından olan mikrotübüller ile ilgilidir?

- A) Yalnız I B) I ve III
C) II ve III D) I, II ve III

20. Pasif geçiş olayları ile ilgili olarak aşağıdakilerden hangisi yanlıştır?

- A) Zamanla ortamlar arası yoğunluk farkı azalır.
B) Madde taşınırken enerji harcanmaz.
C) Madde taşınması sadece tek yönlüdür.
D) Difüzyon ve osmoz şeklinde gerçekleşir.

1. Aşağıda verilenlerden hangisi hücre döngüsünün interfaz basamağında görülür?

- A) DNA eşlenmesi
B) Sitokinez
C) Telofaz
D) Metafaz

2. • Mitozun ikinci evresidir.
• Kromozomlar kinetokorlarından iç ipliklerine tutunmuştur.
• Kromozomların mikroskopta en belirgin görüldüğü evredir.

Özellikleri verilen mitoz bölünme evresi aşağıdakilerden hangisidir?

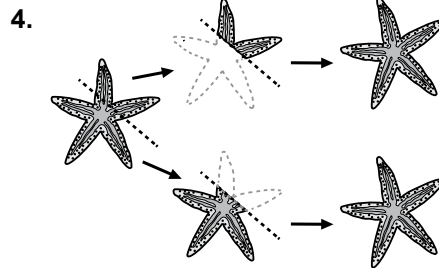
- A) Profaz B) Anafaz
C) Metafaz D) Telofaz

3. Kromozom sayısı 12 olan bir hücre arka arkaya dört mitoz bölünme geçirirse,

- a) Oluşan hücre sayısı
b) Her bir hücrenin kromozom sayısı

değerleri aşağıdakilerden hangisinde verilmiştir?

- | | |
|----|-----------------|
| | $\frac{a}{b}$ |
| A) | $\frac{8}{6}$ |
| B) | $\frac{8}{12}$ |
| C) | $\frac{16}{6}$ |
| D) | $\frac{16}{12}$ |



Denizyıldızı için verilen eşeysiz üreme şekli aşağıdakilerden hangisidir?

- A) Bölünme ile
B) Rejenerasyon ile
C) Spor ile
D) Tomurcuklanma ile

5. Hidranın tomurcuklanması sonucu oluşan ve ana bireye bağlı kalarak yaşayan canlıya a, koloniden eşeysiz çoğalarak ayrılan ve serbest olarak yaşayan bireylere de b denildiğine göre, a ve b için aşağıdakilerden hangisi yanlıştır?

- A) a, poliptir.
B) b, medüzdür.
C) b, tomurcuklanarak çoğalır.
D) a ve b ana bireyle aynı genetik yapıya sahiptir.

6. Bazı bitkilerin yan dallarının uçları toprakla örtülüp gelişmeye bırakılabilir. Toprak altında kalan dallardan yeni kökler meydana gelir ve gelişir. Yan dalların gelişimleri yeterli düzeye geldiğinde ana bitkiden kesilerek ayrılır.

Yukarıda anlatıldığı şekilde bir bitkinin vejetatif üremesi hangi yöntemle olur?

- A) Daldırma B) Aşılama
C) Çelikleme D) Doku kültürü

7. I. Mayoz bölünmelerle gamet oluşturulur.
II. Döllenmeyle zigot oluşur.
III. Oluşan bireyler ata bireylerden farklı kalıtsal özelliklere sahiptir.

Verilenlerden hangileri bir canlının eşeysiz üremesi sırasında gözlenmez?

- A) I ve II B) I ve III
C) II ve III D) I, II ve III

8. a. Tetrat oluşması
b. Homolog kromozomların ayrılması
c. Kardeş kromatitlerin ayrılması
d. Kromozom sayısının sabit kalması

Verilenler Mayoz I ve Mayoz II'de gerçekleşenler şeklinde sınıflanırsa hangisi doğru olur?

- | | | |
|----|----------------|-----------------|
| | <u>Mayoz I</u> | <u>Mayoz II</u> |
| A) | a ve b | c ve d |
| B) | a ve c | b ve d |
| C) | b ve c | a ve d |
| D) | b ve d | a ve c |

1. OTURUM

9. Mayoz bölünmede kalıtsal çeşitlilik gözlenmesinin asıl nedeni verilenlerden hangisidir?

- A) Cross-over'ın görülmesi
- B) Homolog kromozomların ayrılması
- C) İki aşamada gerçekleşmesi
- D) Tek interfaz olması

10. Bakterilerde gözlenen konjugasyon olayı ile ilgili verilenlerden hangisi yanlıştır?

- A) Konjugasyonda görev yapan eşey piluslarının üretilmesi için gerekli bilgiyi taşıyan plazmide F plazmiti denir.
- B) Konjugasyon olayında gen aktarımı F+'dan F-'ye doğru tek yönlü gerçekleşir.
- C) Konjugasyon ile ani sıcaklık değişimleri, besin yetersizliği, antibiyotik uygulaması gibi durumlara dirençli bakteriler oluşur.
- D) Konjugasyon ile birey sayısı artırılarak bakteri türlerinin devamlılığı sağlanmış olur.

11. Arılarda gözlenen partenogenez olayı için,

- I. Döllenen yumurtalardan erkek arılar oluşur.
- II. Erkek arıların kalıtsal yapısı birbirinin aynısıdır.
- III. Kraliçe ve işçi arıların kalıtsal yapısında farklılık yoktur.

verilenlerden hangileri doğrudur?

- A) Yalnız I
- B) I ve II
- C) I ve III
- D) II ve III

12. İnsan dişi üreme sisteminde döl yatağının iç kısmında bulunan ve mukus salgılayıp bol miktarda kan damarı taşıyan tabaka aşağıdakilerden hangisi ile tanımlanır?

- A) Yumurtalık
- B) Yumurta kanalı
- C) Endometriyum
- D) Serviks

13. Menstrual döngünün bu evresinde FSH'nin etkisiyle foliküllerden biri gelişir ve içinde yumurta hücresi olgunlaşır. Gelişen folikül hücreleri çok östrojen, az progesteron salgılar. Evre 10-14 gün arasında sürer.

Özellikleri verilen menstrual döngü evresi aşağıdakilerden hangisidir?

- A) Folikül evresi
- B) Ovulasyon evresi
- C) Korpus luteum evresi
- D) Menstruasyon evresi

14. Aşağıdakilerden hangisi cinsel yolla bulaşan hastalıklardan biri değildir?

- A) AIDS
- B) Frengi
- C) Dizanteri
- D) HPV

15. İnsan embriyosunun büyüyecek gelişmesi aşağıdakilerden hangisi ile olur?

- A) Mayoz bölünme
- B) Mitoz bölünme
- C) Döllenen
- D) Aşılama

16. I. Zigot
II. Blastomer
III. Morula

İnsan embriyosu gelişirken verilenler hangi sıraya göre oluşur?

- A) I – II – III
- B) I – III – II
- C) II – I – III
- D) II – III – I

17. Embriyonun tüm örtülerini en dıştan saran koruyucu zara ne ad verilir?

- A) Amnion
- B) Vitellus
- C) Koriyon
- D) Allantoyis

18. Amniyosentez yöntemi uygulanırken verilenlerden hangisine dikkat edilmez?

- A) Hamileliğin 16. haftasında olmasına
- B) Ayrıntılı ultrason yapıldıktan sonra uygulanmasına
- C) Bebeğin rahim içindeki durumu tespit edildikten sonra yapılmasına
- D) Embriyonun rahime tutunduğunun anlaşılmasından sonra uygulanmasına

19. Aşağıdakilerden hangisi erkek üreme sistemiyle ilgili değildir?

- A) Epididimis
- B) Uterus
- C) Seminifer tüpçük
- D) Vas deferens

20. Menstruasyonun ovulasyon evresinde etkin olan hormon hangisidir?

- A) Progesteron
- B) Östrojen
- C) FSH
- D) LH

(446) BİYOLOJİ – 6

- 1. I. Hormonlar
II. Beslenme
III. Güneş ışığı

Verilenlerden hangileri kemik gelişimini etkileyen dış faktörlerdendir?

- A) Yalnız II
- B) I ve II
- C) I ve III
- D) II ve III

2. Bir kasın kasılıp gevşemesi sırasında, gizli evre, kasılma ve gevşeme evrelerinde gözlenen olaylar ile ilgili verilenlerden hangisi ortaktır?

- A) ATP üretimi ve tüketiminin olması
- B) Sarkomerin boyunun kısalması
- C) H bandının belirginleşmesi
- D) I bandının daralması

1. OTURUM

3. • Aynı anda kasılıp aynı anda gevşeyen kaslardır.
• İskelet kaslarının kemiklere bağlandığı lifli bağ dokudan oluşmuş yapısıdır.
• Sürekli uyarı verilmesiyle kasın uzun süreli tek kasılmasıdır.

Açıklamalar incelendiğinde aşağıdakilerden hangisinin karşılığı yoktur?

- A) Tendon B) Tetanos
C) Antagonist D) Sinerjistik

4. Sağlıklı bir insanın ağızındaki,

- I. Köpek diş
II. Kesici diş
III. Azı diş

sayıları aşağıdakilerden hangisinde verilmiştir?

- | | I | II | III |
|----|---|----|-----|
| A) | 4 | 8 | 20 |
| B) | 8 | 4 | 20 |
| C) | 4 | 4 | 16 |
| D) | 8 | 8 | 16 |

5. Yağların sindirimiyle ilgili verilenlerden hangisi yanlıştır?

- A) Safra salgısıyla kimyasal sindirimi olur.
B) Sindiriminden sorumlu enzim lipazdır.
C) Sindirimi ince bağırsakta başlar ve biter.
D) Sindirimi sonucu oluşan yapıtaşları villuslarca emilir.

6. Pankreas özsuyu a kanalı yardımıyla ince bağırsakta bulunan b bölgesine dökülür.

Buna göre a ve b için aşağıdakilerden hangisi doğrudur?

- | | a | b |
|----|----------------|-----------------|
| A) | Koledok kanalı | Vater kabarcığı |
| B) | Koledok kanalı | Wirsung kanalı |
| C) | Wirsung kanalı | Vater kabarcığı |
| D) | Wirsung kanalı | Koledok kanalı |

7. Kimyasal sindirimin amacı aşağıdakilerden hangisi ile açıklanır?

- A) Hidrolitik enzimleri üretmek
B) Besinlerdeki enerjiyi açığa çıkarmak
C) Sindirim enzimlerinin etki edeceği yüzeyi genişletmek
D) Besin maddelerinin yapıtaşlarına ayrışmasını sağlamak

8. Kalp yapısını oluşturan tabakalar dıştan içe doğru aşağıdakilerden hangisindeki gibi sıralanır?

- A) Perikard – Endokard – Miyokard
B) Perikard – Miyokard – Endokard
C) Endokard – Miyokard – Perikard
D) Endokard – Perikard – Miyokard

9. Bir kalp döngüsü yaklaşık 0,85 saniye sürer. Bu sürenin X saniyesinde kulakçıklar kasılırken Y saniyesinde karıncıklar kasılır. Geriye kalan Z saniyede ise kalp dinlenir.

Buna göre X, Y ve Z için aşağıdakilerden hangisi doğrudur?

- | | X | Y | Z |
|----|------|------|------|
| A) | 0,15 | 0,30 | 0,40 |
| B) | 0,30 | 0,15 | 0,40 |
| C) | 0,10 | 0,15 | 0,60 |
| D) | 0,15 | 0,10 | 0,60 |

10. Atardamarlar ile ilgili aşağıdakilerden hangisi yanlıştır?

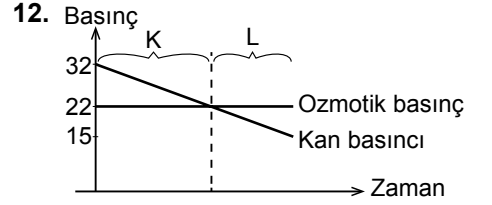
- A) Kan basıncının en yüksek olduğu damarlardır.
B) Nabız ve tansiyon hissedilir.
C) Kan akış hızı çok yüksektir.
D) Tamamı temiz kan taşıır.

11. Yangısal tepki (iltihaplanma) sırasında,

- I. İltihaplı bölgede damar geçirgenliği azalır.
II. İltihaplı bölgede kan akış hızı artar.
III. Akyuvarlar yaralı dokudaki hastalık yapıcı faktörleri yok eder.

olaylarından hangileri görülür?

- A) Yalnız III B) I ve II
C) II ve III D) I, II ve III



Kılcal damarlarda madde alışverişini (Starling Hipotezi) gösteren yukarıdaki grafiğe göre,

- I. K bölümünde doku sıvısından kana doğru madde geçişi olur.
II. L bölümündeki olay ile CO₂ ve NH₃ dokulardan uzaklaşmış olur.
III. K, kılcal damarın atar ucu, L ise toplar ucudur.

verilenlerden hangileri doğrudur?

- A) Yalnız II B) Yalnız III
C) II ve III D) I, II ve III

13. Burundan alınan hava,

- I. Yutak
II. Bronş
III. Bronşiol
IV. Alveol

yapılarından hangi sıraya göre geçer?

- A) I – II – III – IV
B) I – III – II – IV
C) II – IV – III – I
D) III – II – IV – I

14. Karbondioksitin akciğerlere taşınması ile ilgili verilenlerden hangisi yanlıştır?

- A) Kan plazmasında çözünmüş olarak taşınabilir.
B) En çok karbominohemoglobin şeklinde taşınır.
C) HCO₃⁻ (Bikarbonat) şeklinde kan sıvısında taşınabilir.
D) Alveol kılcallarında CO₂ şeklinde bulunabilir.

15. Aşağıdakilerden hangisi bir solunum sistemi rahatsızlığı değildir?

- A) Enfarktüs B) Vurgun
C) Amfizem D) Pnömoni

1. OTURUM

(461) EKONOMİ – 1

16. I. Na, K ve Cl gibi elektrolitlerin kan plazmasındaki yoğunluklarını ayarlama
II. Üre ve ürik asitin vücuttan uzaklaştırılmasını sağlama
III. Alyuvar yapımını sağlayan eritropoietin hormonunu üretme

Verilenlerden hangileri boşaltım sisteminin görevlerindedir?

- A) I ve II B) I ve III
C) II ve III D) I, II ve III

17. Havuzcukta biriken idrar dışarı atılıncaya kadar,

- I. Mesane
II. Üreter
III. Üretra

yapılarından hangi sıraya göre geçer?

- A) I – II – III B) II – III – I
C) II – I – III D) III – I – II

18. Böbreklerde gerçekleşen süzülme olayı ile ilgili verilenlerden hangisi yanlıştır?

- A) Pasif bir olaydır.
B) Bowmandan glomerulusa doğru gerçekleşir.
C) Büyük maddeler süzülemez.
D) Kan basıncı artarsa süzülme de artar.

19. Hayvanlarda davranışı inceleyen bilim dalı aşağıdakilerden hangisidir?

- A) Nöroloji B) Etoloji
C) Psikoloji D) Nefroloji

20. Aşağıda verilenlerden hangisi doğuştan kazanılan davranışlara örnek gösterilmez?

- A) Göz kapağının istemsiz kırılması
B) Yumurtadan çıkan balığın yüzmeye başlaması
C) Solucanların uyarıldığında büzülmesi
D) Köpeğin yemek zilini duyunca salya akıtması

1. Ekonomide fiyat artış hızının yavaşlatılması, fiyatlarda az çok uzun bir süre içinde büyük oranlı değişmelerin önlenmesi, aşağıda verilen ekonomi politikasının başlıca hedeflerinden hangisiyle ilgilidir?

- A) Tam İstihdam
B) Ekonomik Denge
C) Hakça Gelir Dağılımı
D) Ekonomik Büyüme ve Kalkınma

2. Devletin, bazı malların ithal ve ihracını yasaklayan önlemleri, ekonomi politikasının hangi vasıtaları olarak adlandırılır?

- A) Yönlendirici
B) Nicelik Belirleyen
C) Nitelik Belirleyen
D) Emredici

3. Aşağıda verilen açıklamalardan hangisi tümdengelimden yeterliliklerinden biri değildir?

- A) Olaylarla olan ilimiz kesilebilir.
B) Bizi gözlemden yoksun bırakabilir.
C) Somut şartlar üzerinden olayları inceler.
D) Gerçeğe uygunluk kontrolü yapmamıza engel olabilir.

4. İnsanların siyah-beyaz televizyon yerine renkli televizyonu seçmeleri aşağıda verilen ihtiyaç yasalarından hangisine bir örnek teşkil eder?

- A) İhtiyaçların miktarı sınırsızdır.
B) İhtiyaçlar birbirine rakiptir.
C) Bazı ihtiyaçların kapasiteleri sınırlıdır.
D) İhtiyaçlar değişmektedir.

5. Aşağıdakilerden hangisi kültürel mal olarak kabul edilir?

- A) Su B) Elbise
C) Ekmek D) Televizyon

6. Servet ile ilgili verilen bilgilerden hangisi yanlıştır?

- A) Servet görecelidir.
B) Servet bir miktardır.
C) Toplam olarak ifade edilir.
D) Servetin göstergesi sadece paradır.

7. Aşağıda verilenlerden hangisi "Üretim Değer Meydana Getirmektir" görüşüne aykırı bir açıklamadır?

- A) Faaliyet süresince malın şekli değişir.
B) Madde yerine başka bir madde geçer.
C) Eski maddelerin değerleri daha büyük olur.
D) Faaliyet sonunda malın değeri artar.

8. Pamuğun yeterli ölçüde üretildiği bölge ve ülkelerde tekstil endüstrisi de gelişir.

Verilen açıklama, hangi üretim faktörünün etkisi ile ilgilidir?

- A) Doğa B) Emek
C) Sermaye D) Girişimci

9. Aşağıdakilerden hangisi birinci enerji kaynakları arasında yer almaz?

- A) Doğal gaz
B) Biogaz
C) Nükleer enerji
D) Rüzgar enerjisi

10. Aşağıdaki açıklamaların hangisinde bir emek vardır?

- A) Dağ sporu yapmak
B) Otomobil kullanmak
C) Bir şoförün faaliyetleri
D) Zevk için kürek çekmek

11. Kanunla oluşturulan tekele ne ad verilir?

- A) Özel tekel B) İdari tekel
C) Yasal tekel D) Fiili tekel

1. OTURUM

12. Maden rantını ortaya çıkaran **asıl etken aşağıdakilerden hangisidir?**

- A) Büyüklük B) Kalite
C) Fiyat D) Maliyet

13. Faiz oranlarının yüksek olması durumunda aşağıdakilerden hangisinin görülme olasılığı artar?

- A) Ekonomik gelişmenin hızlanması
B) İş alanlarının artması
C) Yatırımların kısılması
D) İşsizliğin azalması

14. Türkiye’de millî gelir hesaplamaları 1927 yılında hangi yöntemle başlamıştır?

- A) Harcama B) Tahmini
C) Üretim D) Gelir

15. Kişilerin millî gelirin oluşumuna katılmasının karşılığı olarak aldığı ve ekonomik gücünü artırdığı para veya para ile ifade edilebilen değerlere ne denir?

- A) Gelir B) Ücret
C) Rant D) Kâr

16. I- Ücret
II- Rant
III- Faiz
IV- Kâr

Yukarıdakilerden hangileri millî geliri oluşturan gelirlerdendir?

- A) I ve IV B) II ve III
C) I, II ve IV D) I, II, III ve IV

17. Aşağıdaki tanımlardan hangisi mübadeleyi ifade etmektedir?

- A) Malların insanlar arasında el değiştirmesidir.
B) Mal ve hizmetlerin elde edilmesi faaliyetidir.
C) İhtiyaçların karşılanması için malların tüketilmesidir.
D) Üretim faaliyeti sonucu elde edilen gelirin dağıtımıdır.

18. Hazine bonusu ya da tahvilinin üzerinde yazan faiz oranına ne denir?

- A) Serbest faiz
B) Nominal faiz
C) Yasal faiz
D) Reel faiz

19. Aşağıdakilerden hangisi ödemeler dengesinde yer alan değerlerden biri **değildir**?

- A) Kamu giderleri
B) İhracat gelirleri
C) Turizm gelirleri
D) İthalat giderleri

20. Aşağıdakilerden hangisi enflasyonun nedenlerinden biridir?

- A) Faiz oranlarının düşmesi
B) Ürün maliyetlerinin azalması
C) Dolaşımdaki para miktarının artması
D) Mal ve hizmet üretiminin artması

(465) TEMEL DİNİ BİL. – 1

1. Aşağıdakilerden hangisi mono-teist anlayışın özelliklerinden biridir?

- A) Tanrı evreni idare etmektedir.
B) Hakikatlere ulaşmada din yetersizdir.
C) Tanrının varlığı ya da yokluğu bilinemez.
D) Evrenin idaresinde her tanrının farklı bir görevi vardır.

2. • M.Ö 551-479 tarihlerinde yaşamış Çin’in büyük filozofu ve din kurucusudur.

- Metafiziğinin her türünü reddetmiş, akla hitap metoduna önem vermiştir.
• Faziletin, her zaman başarıda değil ancak iyilikte ısrarda aranmasına inanmıştır.

Hakkında bilgi verilen kişi aşağıdakilerden hangisidir?

- A) Buda B) Hz. İsa
C) Konfüçyüs D) Guru Nanak

3. Aşağıdakilerden hangisi ilahi dinlerin ortak özelliklerinden biri **değildir**?

- A) Vahye dayalıdır.
B) Belirli bir kabileye aittir.
C) Ahirete iman ortak inançlarından biridir.
D) Peygambere itaat dinin esaslarından biridir.

4. Aşağıdakilerden hangisi günümüzde mensubu **en az olan dinlerdendir**?

- A) Hristiyanlık B) İslamiyet
C) Hinduizm D) Yahudilik

5. Müslümanların Habeşistan’a hicret etmesinde aşağıdaki olayların hangisinin etkisi olmuştur?

- A) Hz. Hatice ve Ebu Talip’in vefat etmeleri
B) Müşriklerin Müslümanlar üzerindeki baskılarını artırmaları
C) Hz. Muhammed(sav.)’in Taif halkından destek görmemesi
D) Müşriklerin Müslümanlara uyguladığı boykotu sona erdirmeleri

6. Aşağıdakilerden hangisi Mekke’de müşriklerin Hudeybiye Antlaşmasını ihlal etmelerinin sonuçlarından biridir?

- A) Medine sözleşmesinin yapılması
B) Hendek Savaşı’nın meydana gelmesi
C) Müslümanların Mekke’yi fetih etmesi
D) Müslümanların Habeşistan’a hicret etmeleri

7. “Eğer yerde ve gökte Allah’tan başka tanrılar bulunsaydı yer ve gök, kesinlikle bozulup gitmişti...” (Enbiyâ suresi, 22. ayet)

Verilen ayetten aşağıdaki sonuçlardan hangisi çıkarılamaz?

- A) Evrende bir düzen vardır.
B) Evreni idare eden Allah’tır.
C) Allah’ın eşi ve dengi yoktur.
D) Evren bir gün yok olacaktır.

1. OTURUM

8. Allah'tan başka hiçbir varlıkta bulunmayan sıfatlara - - - -, diğer varlıklarda kısmen bulunan sıfatlara da - - - - sıfatlar adı verilir.

Bu cümlede boş bırakılan yerlere anlama uygun olarak aşağıdaki kelimelerden hangileri getirilmelidir?

- A) semi - basar
B) zati - subuti
C) kudem - beka
D) ilahi - insani

9. Aşağıdakilerden hangisi "melek" kelimesinin toplamumuzda ifade ettiği anlamlardan biri değildir?

- A) İyilik
B) Saflık
C) Akıllılık
D) Güzellik

10. "Ba'sü ba'del mevt" teriminin anlamı aşağıdakilerden hangisidir?

- A) Mahşerde toplanmak
B) Ölümden sonra dirilmek
C) Sevap ve günahların tartılması
D) Hayır ve şerrin Allah'tan olması

11. Aşağıdakilerden hangisi insanın sorumlu tutulmasının sebebidir?

- A) Canlı olması
B) Ölümlü olması
C) Akıllı ve İrade sahibi olması
D) Konuşma özelliğine sahip olması

12. Aşağıdaki davranışlardan hangisi ibadet olarak değerlendirilemez?

- A) Yardımı menfaat beklentisiyle yapmak
B) İşlerde doğruluktan ayrılmamak
C) Helal rızık için çalışmak
D) Oruç tutmak

13. Usulüne uygun abdest alan bir kişinin, yüzünü yıkadıktan hemen sonra aşağıdakilerden hangisini yapması gerekir?

- A) Kolları yıkaması
B) Ayakları yıkaması
C) Başı mesh etmesi
D) Enseyi mesh etmesi

14. Aşağıdakilerden hangisi namaz kılan bir kişinin secdeye okuduğu tespihattır?

- A) Rabbenâ lekel hamd
B) Sübhâne Rabbiyel- a'lâ
C) Sübhâne Rabbiyel-azîm
D) Semi'allahü limen hamideh

15. Aşağıdakilerden hangisi Ramazan ayı ile ilişkili değildir?

- A) Teravîh namazı
B) Kadir gecesi
C) Fitre
D) Hac

16. Kible ile ilgili verilen bilgilerden hangisi yanlıştır?

- A) İnananların birliğini sembolize eder.
B) Müslümanların ilk kiblesi Kâbe'dir.
C) Namaz kılanların döndüğü yöndür.
D) Beytul Makdis de, Müslümanların kiblesi olmuştur.

17. Dua ile ilgili aşağıdaki bilgilerden hangisi doğrudur?

- A) Dua Arapça olmalıdır.
B) Dua yalnız söz ile yapılmalıdır.
C) Maddi talepler duada yer almamalıdır.
D) Diğer insanlar için de dua etmek güzeldir.

18. Kurban bayramı aşağıdaki ayların hangisinde yer almaktadır?

- A) Recep
B) Zilkade
C) Zilhicce
D) Muharrem

19. Haçta "şeytan taşlama" görevinin yapıldığı mekân hangisidir?

- A) Mina
B) Merve
C) Arafat
D) Müzdelife

20. Beş vakit namazın farzlarının toplamı kaç rekâttır?

- A) 40
B) 33
C) 20
D) 17

(477) İŞLETME – 2

1. Aşağıdakilerden hangisi yönetimin özelliklerine uygun bir açıklamadır?

- A) Yönetim tek kişi faaliyetidir.
B) Yönetim bir yetki faaliyetidir.
C) Yönetim tek yönlü bir faaliyettir.
D) Yönetilenlerin karar verdiği bir süreçtir.

2. Neo-Klasik Yönetim Teorisi, aşağıda verilen kavramlardan hangisi üzerinde durmaz?

- A) Tatmin
B) Motivasyon
C) Kararlara katılma
D) Hiyerarşik yapı

3. İşletme amaçlarının gerçekleştirilebilmesi için, işletmenin tüm birimlerinin ve çalışanların uyum içinde hareket etmesinin sağlanması, yönetim fonksiyonlarından hangisi ile ilgilidir?

- A) Denetim
B) Yürütme
C) Koordinasyon
D) Organizasyon

4. Planlamanın işletmeye sağlayacağı faydalar düşünüldüğünde, aşağıdakilerden hangisi uygun bir açıklama değildir?

- A) İşletmenin etkin bir denetimden korunmasını sağlar.
B) İşletme kaynaklarının verimli kullanılmasını sağlar.
C) Yöneticilere geleceği tahmin etme yeteneği kazandırır.
D) İşletmenin bölümleri arasındaki koordinasyonu sağlar.

1. OTURUM

5. Para, fon yada sermaye, aşağıdaki kavramlardan hangisi ile ifade edilir?
- A) Finans
B) Finansman
C) Finansal yönetim
D) Finansman fonksiyonu
6. Bir işletmenin öz kaynaklarına yönelik yapılan açıklamalardan hangisi doğru değildir?
- A) Devamlı bir kaynak niteliği taşır.
B) Ortaklarca konan fonlar öz kaynaklardır.
C) Bu kaynaklar, vadeli kaynaklardır.
D) Maddi olmayan kaynaklar şeklinde de olabilir.
7. Bir tüketicinin çay demlemek üzere çayı marketten satın alması, pazarlamanın faydalarından hangisi ile açıklanabilir?
- A) Yer faydası
B) Şekil faydası
C) Zaman faydası
D) Mülkiyet faydası
8. Reklamın özelliklerine yönelik yapılan açıklamalardan hangisi yanlıştır?
- A) Reklam yapan kişi bellidir.
B) Reklam kişisel bir sunuştur.
C) Reklam için bir bedel ödenir.
D) Reklam bir kitle iletişimidir.
9. Bazı işletmelerin, toptancı yerine acente veya komisyoncu vasıtasıyla perakendecilere, özellikle büyük perakendecilere ulaşmayı tercih etmeleri, hangi dağıtım kanalını kullanacaklarını göstermektedir?
- A) Üretici – Acente – Perakendeci – Tüketici
B) Üretici – Toptancı – Perakendeci – Tüketici
C) Üretici – Acente – Toptancı – Tüketici
D) Üretici – Toptancı – Acente – Tüketici
10. Bir işletme ürünlerini tüketicilere doğrudan dağıtım yoluyla ulaştırıyorsa aşağıdakilerden hangisi oluşmuş olan uygun şartlardan birisidir?
- A) Üretim hızının tüketim hızından fazla olması
B) Tüketici ya da müşteri sayısının fazla olması
C) Birim fiyatının yüksek olması
D) Üretim - tüketim noktaları arası mesafenin uzak olması
11. Tüketiciler bir malı veya hizmeti satın aldıklarında, bu mal veya hizmet ile ilgili davranışlarını, beğenilerini ve görüşlerini üretimin hangi temel ögesini esas olarak oluştururlar?
- A) Girdi B) İşlem
C) Geri Bildirim D) Çıktı
12. Stoklar belirli bir düzeye düştüğünde, önceden belirlenmiş miktarın sipariş edilmesi ve sürekli stok sayımının yapılması, hangi stok kontrol yönteminin kullanıldığını göstermektedir?
- A) Gözle kontrol yöntemi
B) Sabit sipariş miktarı yöntemi
C) Sabit sipariş süresi yöntemi
D) Stoksuz malzeme yönetim sistemi
13. Aşağıdakilerden hangisi işletmelerin gelirleri artırmak ve giderleri azaltmak amacıyla aldıkları tedbirlerden birisi değildir?
- A) Üretim süresini artırmak
B) Üretimde kaliteyi artırmak
C) Seri üretim yapmak
D) Girdileri uygun fiyattan almak
14. Yapılan açıklamalardan hangisi, bir işletmede performans değerlendirmenin çalışanlar üzerindeki etkilerinden birine yönelik değildir?
- A) Yöneltilir.
B) Motive eder.
C) Yarıştıtır.
D) İşletmeye olan güveni artırır.
15. Oryantasyon eğitiminde aşağıdaki bilgilerden hangisi verilmez?
- A) İşletmenin tanıtımı
B) İşle ilgili bilgilerin aktarımı
C) Personel haklarının açıklanması
D) Amirlerin siyasi görüşleri
16. I- Aylık Ödeme
II- İhbar Tazminatı
III- Mağduriyet Aylığı
IV- Kıdem Tazminatı
- İşletmelerin işten çıkardığı personeline yapacakları zorunlu ödemeler hangi seçenekte doğru olarak verilmiştir?**
- A) Yalnız I B) I ve II
C) II ve IV D) III ve IV
17. İşletmelerin çevreye karşı sorumlulukları dikkate alındığında, bir işletmenin kuruluş yeri seçiminin doğru yapılmamasının ortaya çıkaracağı sonuçlara, aşağıdakilerden hangisi örnek olarak gösterilemez?
- A) Kentleşme yavaşlar.
B) Tarım arazileri azalır.
C) Doğal kaynaklar kirletilir.
D) Sanayi belli bölgelerde toplanır.
18. Aşağıdakilerden hangisi, işletmeler faaliyetlerini sürdürürken çevrenin korunmasına yönelik alınması gerekli tedbirlerde bir eksiklik olduğunu göstermektedir?
- A) Mümkün olduğunca yenilenebilir kaynaklar kullanılmalı
B) İşletme kurulduktan sonra çevre sorunları ile ilgilenmeli
C) Zehirli ve kimyasal gazlar için fabrika bacalarına filtre takılmalı
D) Eğitimler yoluyla çalışanlarında çevre sorumluluk bilinci geliştirmeli
19. Aşağıdakilerden hangisi işletmelerin topluma karşı sorumluluklarından biri değildir?
- A) Ekonomik sorumluluğu
B) Hukuksal sorumluluğu
C) Gönüllü sorumluluğu
D) Rekabet etme sorumluluğu

1. OTURUM

20. Standardizasyon, sağladığı yararlar açısından düşünüldüğünde, öncelikli olarak hedef kitlesi aşağıdakilerden hangisidir?

- A) Üreticiler B) Tüketiciler
C) Satıcılar D) Komisyoncular

(479) MANTIK – 2

1. Aşağıdakilerden hangisi sembolik mantığı klasik mantıktan farklı kılan bir özelliktir?

- A) Günlük dili kullandığı için içeriğin etkisinde olması
B) Aristoteles mantığının alanında kalmaya çalışması
C) Geçerli çıkarımlara ulaşmayı amaç edinmesi
D) Sembolik dil kullanılması

2. Aşağıdaki önermelerden hangisi basit önermeyi ifade eder?

- A) P B) $\sim p$
C) $p \Rightarrow q$ D) $p \wedge q$

3. Aşağıdaki önermelerin hangisinde koşul eklemi (\Rightarrow) kullanılmıştır?

- A) Tekin ve Mehmet çalışmaktadır.
B) Hava yağmurlu veya karlıdır.
C) Ali çalışırsa başarır.
D) Ali yaramaz değildir.

4. "Ayşe ve Hülya kardeştir" önermesi kaç yüklemli bir önermedir?

- A) Birli yüklem
B) İkili yüklem
C) Üçlü yüklem
D) Dörtlü yüklem

5. Aşağıdaki önermelerden hangisinin tek ana bileşeni vardır?

- A) $\sim p$ B) $p \vee q$
C) $p \wedge q$ D) $\sim p \Rightarrow \sim q$

6. "Bir sporcu zeki ve çevik ise başarılı olur" önermesinin önermeler mantığında sembolleştirilmiş biçimi aşağıdakilerden hangisidir?

- A) $p \vee q \Rightarrow r$ B) $p \wedge q \vee r$
C) $p \wedge q \Rightarrow r$ D) $p \Rightarrow q \Rightarrow r$

7. Hiçbir doğrulayıcı yorumlaması bulunmayan önerme tutarsızdır.

Buna göre aşağıdaki önermelerden hangisi tutarsızdır?

- A) $\frac{P}{D}$ B) $\frac{P}{Y}$
C) $\frac{P}{D}$ D) $\frac{P}{Y}$
Y D

8. İki önermenin birbirine denk olması, aynı satırda aynı doğruluk değerlerini almış olmalarını gerektirir.

Buna göre aşağıdaki önermelerden hangisi denk önermedir?

- A) $\frac{p}{D} | \frac{q}{Y}$ B) $\frac{p}{Y} | \frac{q}{D}$
C) $\frac{p}{D} | \frac{q}{Y}$ D) $\frac{p}{D} | \frac{q}{D}$
Y | D Y | Y

9. Aşağıdaki önermelerden hangisi geçerlidir?

- A) $\frac{p \vee q}{D}$ B) $\frac{p \vee \sim q}{D}$
C) $\frac{p \wedge q}{Y}$ D) $\frac{p \Rightarrow q}{D}$
Y D
Y D
D Y

10. Çözümleyici çizelge kurallarına göre $p \wedge q$ önermesinin çözümlemesi aşağıdakilerden hangisidir?

- A) $\frac{p \wedge q}{p} \quad \frac{(I)}{\sim q}$ B) $\frac{p \wedge q}{p} \quad \frac{(I)}{q}$
C) $\frac{p \wedge q}{p} \quad \frac{(I)}{q}$ D) $\frac{p \wedge q}{\sim p} \quad \frac{(I)}{q}$

11. "Farabi filozoftur." önermesinin niceleme mantığındaki sembolik ifadesi hangisidir?

- A) $p \wedge q$ B) Fa
C) $p \vee q$ D) $p \Rightarrow q$

12. \forall sembolüyle gösterilen tümel niceleyicinin anlamı aşağıdakilerden hangisidir?

- A) Bütün B) Bazı
C) Kimi D) Bir kısım

13. Aşağıdakilerden hangisi açık önermeye örnektir?

- A) Aslan hayvandır.
B) Altın madendir
C) Ali çalışmaktadır.
D) X konuşmaktadır.

14. Aşağıdakilerden hangisi üç değerli mantığın kabul ettiği doğruluk değerlerinden biri değildir?

- A) Doğru B) Yanlış
C) Eşit D) Belirsiz

15. Kiplik değişmezlerinden "mümkün" eklemi sembolü aşağıdakilerden hangisidir?

- A) \diamond B) \square C) \vee D) \wedge

16. "Ağrı dağı vardır" önermesinin varlık mantığındaki sembolik ifadesi hangisidir?

- A) $\diamond p$ B) $\square q$
C) $\sim p$ D) $E!a$

1. OTURUM

17. Aksiyomlardan üretilen ve doğruluğu aksiyomlara dayanarak belirlenen önermeler aşağıdakilerden hangisiyle adlandırılır?

- A) Tüme varım B) Tümünden gelim
C) Teorem D) Tanım

18. Aşağıdakilerden hangisi mantığın eleştirel düşünme ve akılcı tartışma alanına uygulanmasını ifade eder?

- A) Kiplik mantığı
B) Tartışma mantığı
C) Varlık mantığı
D) Özdeşlik mantığı

19. Aşağıdakilerden hangisi mantık felsefesinin ele aldığı temel sorunlardandır?

- A) Mantık ilkeleriyle ilgili sorunlar.
B) Bilginin imkanı problemi
C) Bilimin yöntemi problemi
D) Güzellik problemi

20. Aşağıdakilerden hangisi mantık ilkelerinden değildir?

- A) Özdeşlik
B) Çelişmezlik
C) Üçüncü halin imkansızlığı
D) Tüme varım

(484) SAĞLIK BİLGİSİ – 2

1. Türk Medeni Yasası, evlenmek için gerekli olgunluk ve gelişim düzeyini kaç yaş olarak belirlemiştir?

- A) 12 B) 14 C) 16 D) 18

2. Aşağıdakilerden hangisi, ebeveynin çocuğuna olan sorumluluklarından biri değildir?

- A) Çocuğunun ruh sağlığını zedelemek
B) Çocukla sağlıklı bir iletişim kurmak
C) Çocuğuyla kaliteli zaman geçirmek
D) Çocuğua duygusal anlamda destek vermek

3. Aşağıdakilerden hangisi, aile planlamasının anne sağlığı açısından yararlıdır?

- A) Sağlıklı doğan bebek sayısını artırması
B) Erken doğmuş çocuk sayısını azaltması
C) Erken ve geç yaşta doğumları önlemesi
D) Çocukların ekonomik ihtiyaçlarının daha iyi karşılanması

4. I. Düzenli olarak ayda bir kez, kas içine enjeksiyonla uygulanır.
II. Anne sütünü etkilemediği için emziren kadınlar da kullanabilir.
III. Kadında doğal olarak bulunan kadınlık hormonlarından ikisini (östrojen ve progesteron) içerir.

Yukarıdakilerden hangileri, genel koruma yöntemlerinden “aylık iğnelerin” özelliklerindedir?

- A) I ve II B) I ve III
C) II ve III D) I, II ve III

5. Aşağıdakilerden hangisi, gebelik ihtimalinin yüksek olduğunu gösteren belirtilerden biri değildir?

- A) Baş dönmesi
B) Sık idrara çıkılması
C) Beklenen adet başlanması
D) Bulantı ve bazen kusmanın olması

6. Gebelikte, kemik dokusunun yapımı ve sağlığı için gerekli olan kalsiyum, fosfor gibi minerallerin yetersiz tüketimi ve D vitamini kaynağı olan güneş ışınlarından yeterli düzeyde yararlanamama, anne kemiklerinin yumuşamasına ve dokusunun bozulmasına neden olur.

Bu açıklama, gebelik döneminde görülen sorunlardan hangisiyle ilgilidir?

- A) Ödem B) Kabızlık
C) Toksemi D) Osteomalasia

7. I. Kendisi Rh(-), eşi Rh(+) kan grubuna sahip olan anne adaylarının dikkatli olması gerekir.
II. Anne Rh(-), bebek Rh(-) olduğunda kan uyuşmazlığı vardır.

Yukarıda kan uyuşmazlığıyla ilgili verilen bilgiler için ne söylenebilir?

- A) Yalnız I doğru
B) Yalnız II doğru
C) Her ikisi de doğru
D) Her ikisi de yanlış

8. Aşağıdakilerden hangisi, iki yıldan kısa aralıklarla ve çok sayıda yapılan doğumların anne, çocuk ve toplum sağlığı üzerindeki etkilerinden biri değildir?

- A) Annede kansızlığa sebep olması
B) Annenin ruh sağlığında bozulmaya yol açması
C) Toplumda, hasta anne ve çocuk sayısını artırması
D) Gebelik, düşük ve doğuma bağlı anne ölümlerini azaltması

9. Anne sütünün yeterince verilemediği sağlıklı bebeklerde, kaçınıcı aydan sonra ek gıdalara başlanmalıdır?

- A) 1. B) 3. C) 6. D) 9.

10. Gebelere - - - - aşısı (gebeliğin 4. ayında 1. aşı, birinci aşıdan en az 4 hafta sonra 2. aşı, ikinci aşıdan 6 ay sonra 3. aşı) yaptırılmalıdır.

Bu ifadede boş bırakılan yere aşağıdakilerden hangisi yazılmalıdır?

- A) BCG B) Tetanos
C) Kızamık D) Suçiçeği

11. Aşağıdakilerden hangisi, kanserin oluşumunda rol oynayan nedenlerdendir?

- A) Sigara ve alkol kullanımından kaçınma
B) Yeterli ve dengeli beslenme alışkanlığı
C) Radyasyona maruz kalma
D) Temiz hava

1. OTURUM

12. Şeker (diyabet) hastalarının, sağlıklı bir yaşama sahip olmak ve kan şekerlerini dengede tutabilmek için uymaları gereken bazı kurallar vardır.

Buna göre, verilenlerden hangisi şeker (diyabet) hastalarının uymaları gereken kurallardandır?

- A) Egzersiz yapmak
- B) Çıplak ayakla dolaşmak
- C) Her on yılda bir, göz ve böbrek muayenesi yaptırmak
- D) Ayaklarını haftada bir sıcak suyla yıkamak ve kurulamaktan kaçınmak

13. Hipertansiyon, kalp ve damar hastalıklarının en önemlilerinden birisidir. Eğer tedavi edilmezse vücudumuzun çeşitli bölgelerinde ciddi sorunlar ortaya çıkarabilir.

Buna göre;

- I. Böbrek hasarı
- II. Gözlerde görme kaybı
- III. Beyin kanaması ve felç

verilenlerden hangileri hipertansiyonun vücudumuza verdiği zararlardandır?

- A) Yalnız I
- B) I ve II
- C) II ve III
- D) I, II ve III

14. • Çeşitli organlarda ve eklemlerde tekrarlayan iltihabi ataklara neden olur.
• Ataklar genellikle 24-48 saat sürer.
• Hastalarda ataklar dışında hiçbir belirti yoktur.

Yukarıda özellikleri verilen genetik geçişli hastalık hangisidir?

- A) Hemofili
- B) Akdeniz ateşi
- C) Talasemi minör
- D) Talasemi majör

15. Kronik akciğer hastalığının ileri dönemlerinde; morarma, aşırı yorgunluk, güçsüzlük, kalp yetersizliği ve kalpte ritim bozuklukları görülebilir.

Buna göre, kronik akciğer hastalarında görülen yukarıdaki rahatsızlıklar hangisinin yetersizliğine bağlı olarak gelişir?

- A) Posa
- B) Kalsiyum
- C) Oksijen
- D) D vitamini

16. Aşağıdakilerden hangisi, bulaşıcı hastalıklardan korunmak için "sağlam kişiye yönelik" olarak alınan önlemlerdendir?

- A) İhbar yapmak
- B) Sağlıklı evlerde oturmak
- C) Portörleri saptamak ve tedavi etmek
- D) Pastörizasyon, kaynatmak ve pişirmek

17. Aşağıdakilerden hangisi, insanlarda aşılama ve ilaçla en iyi korumanın sağlandığı, solunum yoluyla bulaşan hastalıklardandır?

- A) Grip
- B) AIDS
- C) Brusella
- D) Kırım Kongo Kanamalı Ateşi

18. Kan ve cinsel ilişki yoluyla vücutta bulaşarak sinsi bir hastalığa yol açan "Hepatit B" ile ilgili verilenlerden hangisi doğrudur?

- A) Özel bir ilaç tedavisinin olması
- B) Siroz ve karaciğer kanserine neden olması
- C) Hastalara protein ve karbonhidrattan fakir, yağdan zengin diyet uygulanması
- D) Virüs etkeni taşıyan kurumuş kan ve tükürük gibi atıkların, bir haftadan sonra bulaştırıcılığının olmaması

19. Aşağıdakilerden hangisi, ilaç kullanımında yapılan hatalı davranışlardandır?

- A) Hekime danışılmadan ilaçların kesilmemesi
- B) Hekimin bilgisi olmadan başka ilaçlara başvurulmaması
- C) İlaçların alınmadan önce son kullanma tarihine bakılması
- D) İyileşme sağlayacak ilaçların deneme yanılma yöntemiyle bulunması

20. Ateşli havalede; musluk suyuyla ıslatılmış havlu veya küçük bez parçaları, hastanın vücudunun belirli bölgelerine yerleştirilir.

Ateşi düşürebilmek için yapılan bu uygulamada hastanın vücut bölgelerinden hangisine, ıslatılmış bezlerin direkt olarak konulmaması önerilir?

- A) Kasıklar
- B) Koltuk altları
- C) Göğüs bölgesi
- D) Dirseklerin iç yüzü

(491) TRAF. VE İLK YARD. – 1

1. Taşıt yolunun yalnız bir yöndeki taşıt trafiği için kullanıldığı kara yoluna ne ad verilir?

- A) Erişme kontrollü kara yolu
- B) Bölünmüş kara yolu
- C) Tek yönlü kara yolu
- D) İki yönlü kara yolu

2. Araç sürücüleri, taşıt yolunun dar olduğu yerlerdeki karşılaşmalarda, aksini gösteren bir trafik işareti yoksa aşağıdakilerden hangisine geçiş hakkı vermek suretiyle geçiş kolaylığı sağlamak zorundadır?

- A) Otomobili süren otobüse
- B) Motorsuz aracı süren motorlu araca
- C) Motorlu aracı süren motorsuz araca
- D) Minibüsü süren lastik tekerlekli traktöre

3. Trafik ortamını paylaşanlarda, aşağıdaki tutum ve davranışlardan hangisinin bulunması hâlinde trafik düzeni ve güvenliği olumsuz etkilenir?

- A) Kurallara uyulması
- B) Hoşgörülü olunması
- C) Bencillikten uzak durulması
- D) Kaba ve saldırgan davranılması

1. OTURUM

4. Aşağıdakilerden hangisi, toplu taşıma araçlarında yolcuların uymak zorunda olduğu kuraldandır?

- A) Taşıttan inileceği zaman durağa gelmeden önce iniş kapısına yönelmek
- B) Belirlenen duraklar dışında inip binmek için ısrar etmek
- C) Kendi eşyaları arasında tehlikeli madde taşımak
- D) Fazla yük ve bagajla binmek

5. I. Egzoz gazlarının hava kirliliğine neden olması
II. Gereksiz yere ya da gereğinden uzun kornaya basılması
III. Araçların egzoz borusu ve susturucularında orijinalliğin korunması

Verilenlerden hangileri, trafiğin çevre üzerindeki olumsuz etkilerindedir?

- A) Yalnız I
- B) I ve II
- C) II ve III
- D) I, II ve III

6. 2013-2014 yılları itibarıyla ülkemizde meydana gelen trafik kazalarındaki kusur oranları tabloda verilmiştir.

Yıllar	Sürücü %	Yaya %	Yolcu %	Araç %
2013	88,97	8,91	0,43	0,92
2014	89,12	9,21	0,48	0,62

Buna göre, aşağıdakilerden hangisi trafik kazalarına en fazla neden olmuştur?

- A) Araç
- B) Yaya
- C) Sürücü
- D) Yolcu

7. Aşağıdakilerden hangisi, trafik kazalarının ülke ekonomisine verdiği zararlardan biri değildir?

- A) Trafik işaretlerinin hasar görmesi
- B) Kara yollarının zamanından önce yıpranması
- C) Trafik suçlarına uygulanan cezaların artırılması
- D) Yol kenarındaki oto korkuluklarının tahrip olması

8.



Şekildeki trafik görevlisinin duruş pozisyonuna göre, aşağıdakilerden hangisi doğrudur?

- A) Yol bütün yönlerdeki trafiğe açıktır.
- B) Yol bütün yönlerdeki trafiğe kapalıdır.
- C) Görevlinin ön ve arka cephesinde kalan yollar trafiğe açıktır.
- D) Görevlinin sağ ve sol kol istikametinde kalan yollar trafiğe açıktır.

9. Işıklı trafik işaret cihazında yanan hangi ışık, ikaz mahiyetinde olup yanış sırasına göre yolun trafiğe kapanmak veya açılmak üzere olduğunu gösterir?

- A) Sarı ışık
- B) Yeşil ışık
- C) Kırmızı ışık
- D) Kırmızı oklu ışık

10.



Şekildeki trafik işareti aşağıdakilerden hangisini bildirir?

- A) Bütün yasakların sona erdiğini
- B) Kontrolsüz kavşağa yaklaşıldığını
- C) Duraklama ve park etme yasağını
- D) Yolun araç trafiğine kapalı olduğunu

11. Taşıt yolu (Kaplama) üzerine çizilen hangi çizgi, taşıt yolunu bölünmüş yol durumuna getiren ayırıcı anlamındadır?

- A) Kesik yol çizgisi
- B) Devamlı yol çizgisi
- C) Kesik ve devamlı yol çizgisi
- D) Yan yana iki devamlı yol çizgisi

12. Seyir esnasında araçlarda hangisinin kullanılması, olası bir kaza anında ölüm ve yaralanma riskini azaltır?

- A) Reflektör
- B) Polen filtresi
- C) Çekme halatı
- D) Emniyet kemeri

13. Alkollü içki içen bir sürücünde aşağıdaki durumlardan hangisi görülür?

- A) Dinç ve zinde olma
- B) Reflekslerinde zayıflama
- C) Manevra kabiliyetinde artma
- D) Aşırı hareketli ve uyumlu olma

14. Kara yollarında araç kullanan bir sürücünün, aşağıdakilerden hangisini yapması yasaktır?

- A) İki şeridi birden kullanması
- B) Aracını gidiş yönüne göre yolun en sağından sürmesi
- C) Gidişe ayrılan yol bölümünün en sol şeridini sürekli işgal etmekten kaçınması
- D) Şerit değiştirmeden önce, gireceği şeritte sürülen araçların güvenle geçişlerini beklemesi

15. Aracın 2 saniyede gideceği yol uzunluğu, hangi mesafenin belirlenmesinde kullanılır?

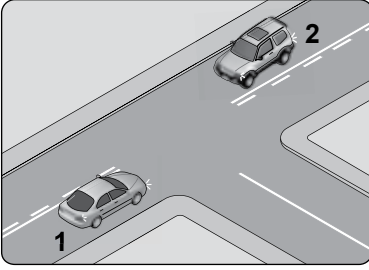
- A) İntikal mesafesi
- B) Görüş mesafesi
- C) Geçiş mesafesi
- D) Takip mesafesi

16. Aşağıdakilerden hangisinin kara yollarında geceleri seyredenken yapılması yasaktır?

- A) Karşılaşmalarda ışıkların söndürülmesi
- B) Geçme sırasında öndeki aracın ışıkla uyarılması
- C) Öndeki araç yakından izlenirken kısa hüzmeli farların yakılması
- D) Sis ışıklarının sadece sis, kar ve şiddetli yağmur sebebiyle görüşün yetersiz olduğu hallerde kullanılması

1. OTURUM

17. Şekildeki kavşakta 1 numaralı araç sağa, 2 numaralı araç ise sola dönüş yapmak istemektedir.



Bu araçlarla ilgili olarak aşağıdakilerden hangileri doğrudur?

- I. Her iki araçta dar kavisle dönmelidir.
II. 1 numaralı araç geniş, 2 numaralı araç dar kavisle dönmelidir.
III. 1 numaralı araç dar, 2 numaralı araç geniş kavisle dönmelidir.

- A) Yalnız I B) Yalnız II
C) Yalnız III D) I, II ve III

18. • Yolun genişliği
• Yayanın yürüme hızı
• Yayanın sağlık durumu

Yukarıda verilenler, kara yollarında karşıdan karşıya güvenli geçiş yapmak isteyen bir yaya için, hangi durumu belirlemeye yöneliktir?

- A) Asfalt kalitesini
B) Karşıya geçiş süresini
C) Trafikteki görevli sayısını
D) Trafikteki araçların modelini

19. **Motorlu bisiklet, motosiklet ve sürücülerini ile ilgili olarak aşağıdakilerden hangisinin yapılması yasaktır?**

- A) Geçme yaparken sinyal vermesi
B) Tehlikeli madde taşıyan araçların geçilmesi
C) Gidiş yönüne göre yolun en sağından seyredilmesi
D) Sürücü arkasında yeterli oturma yeri olsa bile bir kişiden fazlasının taşınması

20. **Aşağıdakilerden hangisi, cumhurbaşkanına tahsis edilen araçların plakasıdır?**

- A)
- B)
- C)
- D)

(502) İNGİLİZCE – 8

1 - 20. sorularda boş bırakılan yere uygun gelen kelime ya da ifadeyi işaretleyiniz.

1. **She will be - - - - for her exam when I get home.**

- A) doing B) staying
C) working D) studying

2. **By the time the boss came, the workers - - - - the work.**

- A) finish
B) had finished
C) used to finish
D) will have finished

3. **I am too tired. I will be sleeping - - - - .**

- A) in a few minutes
B) two minutes ago
C) at the moment
D) yesterday

4. **- - - - the end of this term, everybody will have graduated from the school.**

- A) From B) In
C) On D) By

5. **If you are ill, you - - - - your doctor.**

- A) have to see
B) used to see
C) had to see
D) would see

6. **If I were you, I - - - - apologize to her.**

- A) must B) can
C) may D) would

7. **If they had known the subject, - - - - .**

- A) they can learn better
B) they never want to study regularly
C) they would have answered the question
D) they will be reading all the questions soon

8. **What would you do if you - - - - a millionaire?**

- A) are B) were
C) do D) did

9. **You called me - - - - I was checking my e-mails.**

- A) since B) when
C) because D) while

10. **- - - - he had a terrible toothache, he went to the dentist.**

- A) Since B) So
C) For D) Until

11. **Ceyda is - - - - hardworking - - - - Selma.**

- A) from / to B) such / as
C) so / as D) as / as

12. **She was walking when - - - - .**

- A) he is watching TV
B) I saw her in the mall
C) she will buy a present
D) her mother walks every day

1. OTURUM

(502) ALMANCA – 8

1 - 15. sorularda boş bırakılan yere uygun gelen kelime ya da ifadeyi işaretleyiniz.

13. - - - - I feel sleepy, I drink a cup of coffee.

- A) In order to B) Whenever
C) So that D) Whatever

14. Rice is grown in Kastamonu - - - - farmers.

- A) for B) in C) by D) with

15. This book was - - - - in 1976.

- A) published B) watched
C) played D) said

16. The windows are being - - - - by my mother.

- A) clean B) cleans
C) cleaned D) cleaning

17. The tickets - - - - by my secretary tomorrow.

- A) will buy
B) will be buying
C) will be bought
D) will have bought

18. Exam papers must be - - - - in 15 minutes.

- A) given B) watched
C) decided D) bought

19. A: - - - - ?

B: By Fatih Sultan Mehmet

- A) What is the book about
B) Who was Istanbul conquered by
C) Will you go to İstanbul by your car
D) Did Fatih Sultan Mehmet conquer İstanbul

20. Andy: - - - - ?

Brian: I will be studying English.

- A) What will you be doing this time tomorrow
B) What time will you be studying English
C) Where will you be studying English
D) Who will you be with in the library

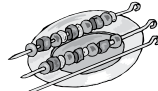
1. Das Haus, - - - - dort steht, ist 200 Jahre alt.

- A) der B) die C) das D) den


2.



10 TL



15 TL



8 TL

Hähnchen ist am - - - - .

- A) billig B) billige
C) billiger D) billigsten

3. Der Berg Ağrı ist der - - - - Berg der Türkei.

- A) hoch B) höchste
C) höher D) am höchsten

4. A: Seit wann - - - - du in Spanien?

B: Seit 2 Jahren.

- A) leben B) lebe
C) lebt D) lebst

5. Ich - - - - jedes Jahr mit dem Flugzeug nach Köln.

- A) fliege B) schwimme
C) laufe D) fahre


6. Einen Tee - - - - .

- A) essen B) trinkt
C) isst D) trinken

7. Wer - - - - die Frage beantworten?

- A) können B) kannst
C) kann D) gekonnt

8.



Das ist ein - - - - .

- A) Lastwagen B) Auto
C) Bus D) Straßenbahn

9. A: - - - - ist Kırıkkale von Ankara entfernt?


B: Ich glaube 70 km.

- A) Wozu B) Wie weit
C) Womit D) Wie lange

10. Der dick- - - - - Mann und die dünn- - - - - Frau sind verheiratet.

- A) -en / -e B) -e / -en
C) -es / -es D) -e / -e

11.



Wie spät ist es?

Es ist - - - - .

- A) zehn nach elf
B) zwanzig vor elf
C) zehn vor elf
D) zwanzig nach elf

12. Ihr - - - - nicht viel Kaffee trinken.

- A) sollen B) soll
C) sollt D) sollst

13. - - - - soll Sport treiben, um gesund zu bleiben.

- A) Man B) Ist
C) Ihm D) Ihr

1. OTURUM

(502) FRANSIZCA – 8

1 - 18. sorularda boş bırakılan yere uygun gelen kelime ya da ifadeyi işaretleyiniz.

14. kommen, - - - -, gekommen

- A) kommt B) kommst
C) komme D) kam

15. Wenn ich Urlaub hätte, - - - - ich nach London fliegen.

- A) wäre B) wird
C) würde D) würdest

16. Aşağıdakilerden hangisi ayrılabilen fiildir?

- A) aufpassen B) gesund
C) entwickeln D) bewerten

17. Aşağıdakilerden hangisi sıfattır?

- A) trinken B) rund
C) schneiden D) kaufen

18. In welcher Jahreszeit sind die Monate September, Oktober, November?

- A) Frühling B) Sommer
C) Herbst D) Winter

19.



Wie heißt der Beruf?

- A) Polizist B) Soldat
C) Lehrer D) Fahrer

20. Kurallı bir cümle oluşturunuz.

Karin - Zähne - jeden Abend -
1 2 3

ihre - putzt
4 5

- A) 1 / 5 / 3 / 4 / 2
B) 1 / 2 / 3 / 4 / 5
C) 5 / 2 / 1 / 3 / 4
D) 5 / 3 / 4 / 2 / 1

8. A: Et toi, tu ne prends pas d'omelette ?

B: Si, mais je peux - - - - manger deux fois par semaine.

- A) lui B) en C) y D) les

9. Les Turcs boivent 25 litres de lait - - - - personne - - - - ans.

- A) en / en B) dans / en
C) en / dans D) par / par

10. Je ne suis jamais allé au Canada mais mon frère - - - - habite.

- A) le B) y C) en D) par

11. Pierre a rendez-vous à 11 heures. Il est 11h 20. Et il est encore chez lui.

Il est - - - - .

- A) à midi B) en avance
C) en retard D) à l'heure

12. Il a cassé les verres - - - - sa maladresse.

- A) à cause de B) pourquoi
C) parce que D) grâce à

13. Pour grossir, il faut - - - - .

- A) manger beaucoup
B) faire du sport
C) perdre du kilo
D) marcher

14. - - - - ils iront en vacances en Espagne.

- A) L'été prochain
B) Hier
C) Avant-hier
D) Lundi dernier

1. Hier soir, - - - - est rentré à cinq heures du matin.

- A) il B) je (j')
C) elle D) tu

2. Avant de sortir, - - - - votre manteau!

- A) croyons B) parlons
C) mettez D) éteignez

3. Ce soir, on va au cinéma. N'oublie pas de (d') - - - - cinq tickets!

- A) continuer B) venir
C) porter D) acheter

4. Le café - - - - à 23 heures.

- A) mange B) ferme
C) cherche D) bois

5. Ma mère a vu le film Titanic - - - - elle trouve super.

- A) où B) dont
C) que (qu') D) qui

6. A : Qu'est-ce que tu prends comme boisson ?

B : Je prends - - - - .

- A) du jus d'orange
B) des pommes de terre
C) du beurre
D) un gâteau au chocolat

7. A: Aykut téléphone souvent à - - - - ?

B: Oui, il leur téléphone souvent.

- A) sa cousine B) sa mère
C) son fils D) ses parents

1. OTURUM

15. A: Tu viens à mon anniversaire?

B: - - - - .

- A) S'il a soif, il veut boire du lait
- B) S'il a faim, il mange de la salade
- C) Si je vais mieux, je veux venir
- D) S'il y a un bon film, je veux aller

16. Hakan n'a pas fait ses devoirs, car - - - - un film d'action à la télé.

- A) c'était
- B) il faisait froid
- C) il faisait chaud
- D) il y avait

17. Pierre : Sylvie, je n'ai plus de viande, tu peux aller - - - - ?

Charlotte : D'accord, il faut autre chose ?

Pierre : Oui, du poulet pour demain.

- A) à l'hôtel
- B) à la boulangerie
- C) à la librairie
- D) à la boucherie

18. Tu peux conduire mais il faut être - - - - .

- A) attentif
- B) hypocrite
- C) longue
- D) nouveau

19- 20. sorularda verilen resme göre cümlede boş bırakılan kısmı tamamlayan sözcük ya da ifadenin bulunduğu seçeneği işaretleyiniz.

19.



Mme Dupont qui est - - - - a deux chats et un chien.

- A) une fausse amie
- B) une jeune fille
- C) une vieille femme
- D) un vieil homme

20.



Quand il fait beau, - - - - .

- A) il lave sa moto
- B) il fait du vélo
- C) il répare son vélo
- D) il voyage en auto

(511) FIKIH – 1

1. Aşağıdakilerden hangisi fıkıh ilminin tanımıdır?

- A) Peygamber Efendimizin söz, fiil ve takrirleridir.
- B) Kişinin günlük hayatında faydasına ve zararına olan şeyleri bilmesidir.
- C) İslam inanç esaslarını savunmayı hedef alan bir ilimdir
- D) Kur'an-ı Kerim'in ayetlerinin ne anlama geldiğinin yorumlanmasıdır.

2. İnsanın yaratıcısına, kendisine ve diğer insanlara karşı hak ve sorumluluklarını bilmesidir.

Verilen ifade fıkıh ilminin hangi yönüyle ilgilidir?

- A) Amaç
- B) Yöntem
- C) Tanım
- D) Kapsam

3. Aşağıdakilerden hangisi "Muamelât" konularını içerisindedir?

- A) Borçlar
- B) Evlenme
- C) Alım-Satım işleri
- D) Kira ve sözleşme

4. Fıkıhın varlığı, belli kuralların, bazı genel ilkelerin ve de bu ilkelerin çıkarıldığı ve dayandırıldığı kaynakların varlığını da gerekli kılar. Çünkü her şeyden önce dinî bir meselede hüküm vermenin rastgele olması düşünülemez.

Bu parçada aşağıdaki ilişkilerden hangisi anlatılmıştır?

- A) İnsan - Evren
- B) İnsan - Toplum
- C) Fıkıh - Tefsir
- D) Fıkıh - Fıkıh usulü

5. Aşağıdakilerden hangisi fıkıh ilminin temel ilkeleri arasında yer almaz?

- A) Haramlarda genişlik
- B) Mükellefiyette kolaylık
- C) Hükümlerde tedricilik
- D) Kamu yararının gözetilmesi

6. Aşağıdakilerden hangisi içtihadı bir örnek değildir?

- A) Müellefe-i kuluba zekâtan pay verilmemesi
- B) Fethedilen topraklardan vergi alınması
- C) Kur'an'ın Mushaf haline getirilmesi
- D) İçki ve kumarın yasaklanması

7. • Dini metinlerdeki bazı ifadelerin farklı yorumlanmaya imkân verecek tarzda olması
• Hz. Peygamberin vefatından sonra ortaya çıkan siyasi ve ilmi nitelikli görüş ayrılıkları
• İslam devletinin sınırlarının genişlemesi ve İslam ile tanışan yeni milletlerin yeni sorunlarla gelmesi olması

Bu sebepler aşağıdakilerden hangisine zemin hazırlamıştır?

- A) Mezheplerin ortaya çıkmasına
- B) Dini ilimlere yönelişin azalmasına
- C) Kur'an'ın kitap haline getirilmesine
- D) Müslümanlar arası birliğin artmasına

1. OTURUM

8. Sahabe Döneminin en tanınmış fıkıh alimi aşağıdakilerden hangisidir?

- A) Bilal-i Habeşi
- B) Halit b. Velit
- C) İbni Mesud
- D) Selman-ı Farisi

9. • Akla ve rey'e büyük önem vermişlerdir.

- İstihsan yöntemi bu mezheple özdeşleşmiştir.
- Sahih olmayan hadisler yerine içtihadı başvurmuşlardır.

Bu usuller aşağıdaki mezheplerden hangisine aittir?

- A) Hanefilik
- B) Malikilik
- C) Şafii'lik
- D) Hanbelilik

10. Aşağıdaki mezheplerden hangisi hüküm verirken Kıyas ve İcma'ı delil olarak kabul etmez?

- A) Malikilik
- B) Hanefilik
- C) Caferilik
- D) Hanbelilik

11. Aşağıdakilerden hangisi mükellefiyetin şartlarından biri değildir?

- A) Akıllı olmak
- B) Erkek olmak
- C) Müslüman olmak
- D) Ergenlik çağına girmiş olmak

12. Kişi tam vücup ehliyetine ne zaman sahip olur?

- A) Doğumu ile
- B) Cenin haline gelmesi ile
- C) Ergenliğe ulaşması ile
- D) Müslüman olması ile

13. Aşağıdakilerden hangisi semavi arızalardandır?

- A) Savurganlık
- B) Sarhoşluk
- C) Unutkanlık
- D) Cehalet

14.

Namazlar	Hükümler
• Beş vakit namaz	• Vacip
• Teravih namazı	• Sünnet
• Cenaze namazı	• Farz-ı Ayn
	• Farz-ı Kifaye

Tablodaki namazlar ile hükümler eşleştirildiğinde hangi hüküm dışarıda kalır?

- A) Vacip
- B) Sünnet
- C) Farz-ı Ayn
- D) Farz-ı Kifaye

15. Şari'in, mükellefi yapıp yapmaktan özgür bıraktığı ve günah ya da sevap olarak değerlendirilmeyen fillere ne denir?

- A) Farz
- B) Mübah
- C) Mekruh
- D) Müstehap

16. Aşağıdakilerden hangisi fıkhi hükümlerin asli kaynaklarından biridir?

- A) Sedd-i Zerai
- B) İstihsan
- C) İstishab
- D) İcma

17. Dini anlamak ve onu günlük hayata uygulayabilmek için Kitap ve sünnetten Allah'ın rızasına uygun olarak hükümler çıkartmaya ne denir?

- A) Sedd-i Zerai
- B) Ehliyet
- C) İstişare
- D) İctihat

18. "Gücünüzün yeteceği işleri yapınız, vallahi siz yorulmadıkça Allah yorulmaz."

Bu hadis fıkıhın temel ilkelerinden hangisine vurgu yapmaktadır?

- A) Adaletin gözetilmesi
- B) Hükümlerde tedricilik
- C) Mükellefiyette kolaylık
- D) Kamu yararının gözetilmesi

19. Aşağıdaki eserlerden hangisi İmam Şafii'ye aittir?

- A) El-Muvatta
- B) El-Müsned
- C) El-Mu'cem
- D) El-Umm

20. "Müçtehit, içtihat ederek bir hüküm verdiğinde verdiği hüküm doğru ise iki sevap alır, hatalı ise bir sevap alır."

Bu hadis ile aşağıdakilerden hangisi teşvik edilmemiştir?

- A) Araştırma
- B) İnceleme
- C) Taassup
- D) İstişare

(532) HZ. MUHAMMED'İN HAY. – 2

1. Hz. Muhammed (sav.)'in, gönderdiği askeri bir kuvvetin başına azatlı kölelerden Zeyd'in oğlu Üsame'yi komutan olarak ataması O'nun daha çok hangi özelliğinden kaynaklanmaktadır?

- A) Sabırlı ve cesaretli olma
- B) Merhametli ve şefkatli olma
- C) Yumuşak huylu ve anlayışlı olma
- D) Görev dağılımında liyakate önem verme

2. "...Hiç kimsenin başkası üzerinde bir üstünlüğü yoktur."

Bu hadis aşağıdakilerden hangisine vurgu yapmaktadır?

- A) Eşitlik
- B) Özgürlük
- C) Tevekkül
- D) Sorumluluk

3. Peygamberimizin oğlu İbrahim'in vefat ettiği gün güneş tutulması yaşanmıştı. Halktan bazıları güneş tutulmasının İbrahim'in vefatı nedeniyle olduğunu söylüyorlardı. Bunu duyan Hz. Peygamber; "Ay ve Güneş, Allah'ın ayetlerinden sadece iki ayettir. Bunlar birinin ölümü veya doğumu için tutulmazlar..." buyurmuştur.

Bu olayda aşağıdakilerden hangisine değnilmemiştir?

- A) Bazılarının Ay ve Güneş tutulmasını farklı yorumladıklarına
- B) Hz. Peygamberin oğlu İbrahim'in de Allah'ın kulu olduğuna
- C) Ay ve Güneş'in insanların hizmetine verildiğine
- D) Ay ve Güneş tutulmasından ibretler alınması gerektiğine

1. OTURUM

4. • Allah'a kul olma açısından herkes eşittir.
• Peygamberler de diğer insanlar gibi Allah'a ibadet etmekle görevlidirler.
• Dini sorumlulukları yerine getirme açısından kimsenin ayrıcalığı yoktur.

Verilen bilgilerden çıkarılabilecek en kapsamlı yargı aşağıdakilerden hangisidir?

- A) Din insanlara görevler yüklemektedir.
B) Allah Peygamberlere de sorumluluk yüklemiştir.
C) Allah'a kullukta kimsenin kimsese üstünlüğü yoktur.
D) Allah'a kul olan kişi O'nun emirlerini yerine getirmelidir.

5. Peygamberimizin bulunduğu ortama dışarıdan katılan kişiler, onu tanıyamıyorlar, "Hanginiz Muhammed?" ya da "Kavmin efendisi hanginiz?" diye sormak zorunda kalıyorlardı.

Bu durum Peygamberimizin hangi özelliğini göstermektedir?

- A) Cesaretini
B) Mütevazılığını
C) İnsana değer vermesini
D) İbadetlerine özen göstermesini

6. • Hz. Muhammed (sav.)'e "Muhammedü'l-Emin" denilmesi
• "Kâbe hakemliği" yaptığında kimsenin itiraz etmemesi

Verilen bilgiler Peygamberimizin hangi özelliğini göstermektedir?

- A) Güvenilir ve adil olması
B) Cesaretli ve kararlı olması
C) Sabırlı ve hoşgörülü olması
D) Merhametli ve affedicisi olması

7. "Akıl akıldan üstündür."

Bu atasözü aşağıdakilerden hangisine vurgu yapmaktadır?

- A) Takvâya B) İstişareye
C) Tefekküre D) Tevekküle

8. "Ey iman edenler! Adaleti titizlikle ayakta tutan, kendiniz, ana babanız ve akrabanız aleyhinde de olsa Allah için şahitlik eden kimse-ler olun..." (Nisâ suresi, 135. ayet)

Bu ayette aşağıdakilerden hangisine değinilmemiştir?

- A) Hoşgörülü olmak
B) Yalandan kaçınmak
C) Adaletli davranmak
D) Doğruluktan ayrılmamak

9. "Her kim yalnız Allah rızası için bir yetimin başını okşarsa elinin değdiği her saç teli hatırına sayısız sevap kazanır. Kim yetim kalmış bir kız veya erkek çocuğu yanına alıp iyilik ve güzellikle bakarsa ben ve o cennette şu iki parmak gibi yan yanayız."

Bu hadisten aşağıdaki sonuçlardan hangisi çıkarılamaz?

- A) Yetimleri koruyup kollamak gerekir.
B) Yapılan işlerde Allah rızası gözetilmelidir.
C) Yetimlere sahip çıkanlar mükâfatını göreceklendir.
D) Takva bakımından insanların en üstünü yetime sahip çıkanlardır.

10. **Aşağıdakilerden hangisi İslam dininin tavsiye ettiği bir davranıştır?**

- A) Kendini beğenme
B) İnsanları kıskanma
C) Alçakgönüllü olma
D) Cömertlikten kaçınma

11. **Aşağıdaki ayetlerden hangisi konusu bakımından diğerlerinden farklıdır?**

- A) "Onlar, kendi canları çekmesine rağmen yemeği yoksula, yetime ve esire yedirirler." (İnsan suresi, 8. ayet)
B) "Onların (zenginlerin) mallarında, muhtaç ve yoksullar için bir hak vardır." (Zâriyât suresi, 19. ayet)
C) "İşte o, yetimi itip kakar; yoksulu doyurmaya teşvik etmez." (Mâun suresi, 2-3. ayetler)
D) "Ey iman edenler! Mallarınız ve çocuklarınız sizi Allah'ı anmaktan alıkoymasın..." (Münâfikûn suresi, 9. ayet)

12. "Zenginlerin davet edilip fakirlerin çağrılmadığı düğün yemeği ne fena bir yemektir."

Bu hadiste aşağıdakilerden hangisine vurgu yapılmıştır?

- A) Fakirleri koruyup kollamaya
B) Nikâhı insanlara duyurmaya
C) Düğünlere herkesi davet etmeye
D) Düğünlerde yemek ikram etmeye

13. Peygamber Efendimize ilk vahiy geldiğinde telaş ile eve gelip durumu Hz. Hatice'ye anlatmış ve Hz. Hatice ona; "Üzülme, sen fakiri doyurur ve akrabaya yardım edersin. Allah, seni utandırmaz!" demişti.

Bu olayda Hz. Hatice, Peygamberimizin hangi yönüne değinmemiştir?

- A) Akrabalarla ilişkilerine
B) Fakirleri korumasına
C) Cesaretli kişiliğine
D) Cömert oluşuna

14. **Hz. Muhammed (sav.)'in Mekke Dönemi'nde mağdur insanlara yardım etmek, haksızlığa uğrayanların haklarını korumak amacıyla katıldığı teşkilat aşağıdakilerden hangisidir?**

- A) Dârun-Nedve
B) Hılful-Fudul
C) Dârul Erkam
D) Ashâb-ı Suffa

15. "Üzerinde bir din kardeşinin kendisine yahut malına tecavüzden doğmuş bir hak bulunan kimse, dinar ve dirhem bulunmayacak kıyamet gününden evvel, bugün dünyada mazlumdan o hakkı bağışlamasını istesin..."

Bu hadiste aşağıdakilerden hangisi vurgulanmaktadır?

- A) Kul hakkı
B) Yetime yardım
C) Mağdura yardım
D) Kimsesizleri gözetme

1. OTURUM

16. "O vakit Allah'tan bir rahmet ile onlara yumuşak davrandın! Şayet sen kaba, katı yürekli olsaydın, hiç şüphesiz, etrafından dağılıp giderlerdi..." (Â-i İmrân suresi, 159. ayet)

Bu ayette Peygamberimizin aşağıdaki yönlerinden hangisi-ne değinilmektedir?

- A) Merhametli ve hoşgörülü olma
B) Öksüz ve yetimlere sahip çıkma
C) Doğru sözlü ve güvenilir olma
D) İnsanlara eşit davranma

17. Hendek Savaşı öncesinde yapılan istişarede, Medine'yi savunmak için şehrin etrafına hendek kazılması fikrini dile getiren sahabe aşağıdakilerden hangisidir?

- A) Muaz bin Cebel
B) Selman-ı Farisi
C) Ali bin Ebi Talip
D) Bilal-i Habeşi

18. "İki kişi arasında hüküm vermek için seni hakem tayin ederlerse birini dinler dinlemez hüküm verme; ikincisini de dinledikten sonra nasıl hüküm vereceğini daha iyi anlarsın."

Aşağıdakilerden hangisi bu hadiste tavsiye edilen davranışlardan biri değildir?

- A) Tarafları iyice dinlemek
B) Hüküm verirken acele etmemek
C) Yalan şahitlik yapmaktan kaçınmak
D) Hüküm verirken önyargılı olmamak

19. İstişare ile ilgili aşağıda verilen bilgilerden hangisi doğrudur?

- A) Herkesle istişare yapılabilir.
B) İstişare edilecek kişi güvenilir olmalıdır.
C) İstişare özgür düşüncenin gelişmesine engeldir.
D) İstişare edilen kişinin her söylediği doğru kabul edilmelidir.

20. Aşağıdaki ayetlerden hangisi istişare ile ilgili değildir?

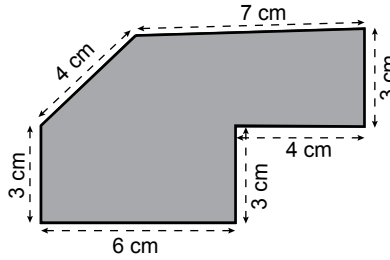
- A) "... Eğer bilmiyorsanız ilim sahiplerine sorun." (Nahl suresi, 43. ayet)
B) "... Onların işleri aralarında danışma ilemdir..." (Şûrâ suresi, 38. ayet)
C) "... Her ilim sahibinin üstünde daha iyi bir bilen vardır." (Yûsuf suresi, 76. ayet)
D) "Ey iman edenler! Allah için hakkı ayakta tutan, adaletle şahitlik eden kimseler olun..." (Maide suresi, 8. ayet)

(609) MATEMATİK – 6

1. Ölçeği $\frac{1}{100}$ olan bir planda 20 cm uzunluk gerçekte kaç metredir?

- A) 2 B) 20 C) 200 D) 2000

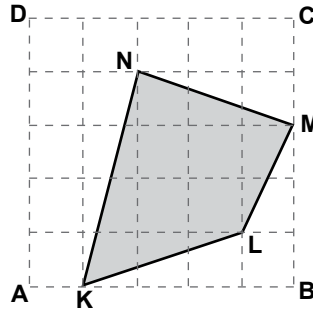
2.



Şekilde ölçeği $\frac{1}{200}$ olan bir arsanın planı verilmiştir. Bu arsanın gerçek çevresi kaç metredir?

- A) 24 B) 30 C) 48 D) 60

3.



Şekildeki ABCD karesinin alanı 25 birimkaredir. Buna göre A(KLMN) kaç birimkaredir?

- A) 7 B) 8 C) 9 D) 10

4. Boyutları 5 cm, 6 cm, 10 cm olan dikdörtgenler prizmasının yüzey alanı kaç santimetrekaredir?

- A) 280 B) 260 C) 240 D) 220

5. Kenar uzunlukları 4 m ve 5 m olan dikdörtgen şeklindeki kumaşın tamamı bir metrekairelik eş parçalara ayrılıp her bir parça 15 liraya satılacaktır. Buna göre tüm kumaşın satışı sonucunda kaç lira elde edilir?

- A) 200 B) 300
C) 400 D) 500

6. Taban ayrıtlarından birinin uzunluğu 8 cm ve yüksekliği 10 cm olan kare dik prizmanın yüzey alanı kaç santimetrekaredir?

- A) 320 B) 384 C) 416 D) 448

7. Taban ayrıtlarından birinin uzunluğu 20 cm ve yüksekliği 40 cm olan kare dik prizmanın içine yerleştirilebilecek silindirin hacmi en fazla kaç π santimetreküp olur?

- A) 2000 B) 3000
C) 4000 D) 5000

8. Taban yarıçapının uzunluğu 5 cm ve yüksekliği 10 cm olan silindir biçimindeki kabın tamamı su ile doludur. Silindirdeki suyun tamamı bir ayrıtların uzunluğu 10 cm olan küp biçimindeki boş bir kaba boşaltıldığında kaptaki suyun yüksekliği kaç santimetre olur? (π yerine 3 alınız.)

- A) 10 B) 7,5 C) 5 D) 2,5

9. Bütün ayrıtlarının uzunlukları toplamı 60 cm olan küpün hacmi kaç santimetreküptür?

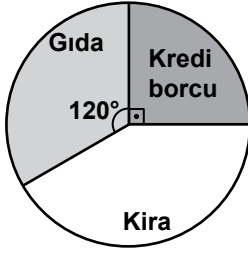
- A) 27 B) 64 C) 125 D) 126

10. Hacmi 500 cm^3 olan kürenin yarıçapının uzunluğu kaç santimetredir? (π yerine 3 alınız.)

- A) 5 B) 4 C) 3 D) 2

1. OTURUM

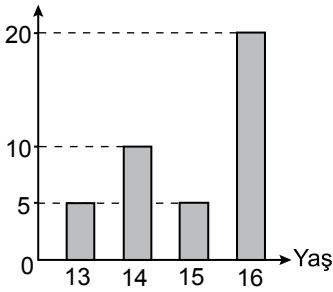
11.



Yukarıdaki dairesel grafik bir kişinin aylık giderlerini göstermektedir. Aylık kredi borcu 300 lira olan kişinin kira gideri kaç liradır?

- A) 350 B) 400 C) 450 D) 500

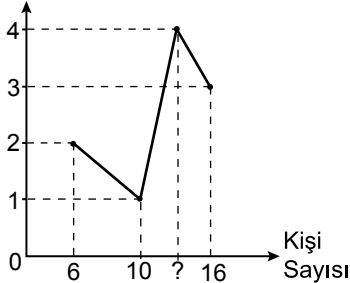
12. Öğrenci Sayısı



Yukarıdaki grafikte bir kurstaki öğrencilerin yaşlarının dağılımı verilmiştir. Buna göre bu kurstaki öğrencilerin yaşlarının ortalaması kaçtır?

- A) 13 B) 14 C) 15 D) 16

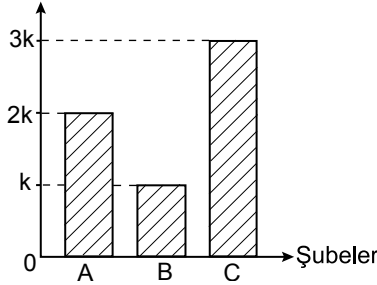
13. Şeker Sayısı



Yukarıdaki grafik günlük 114 şeker tüketen bir iş yerindeki kişi sayısı ve kişi başına tüketilen şeker miktarını göstermektedir. Buna göre günlük 4 şeker tüketen kişi sayısı kaçtır?

- A) 11 B) 12 C) 13 D) 14

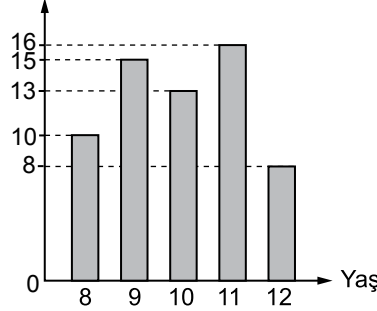
14. Öğrenci Sayısı



Yukarıdaki sütun grafiği A, B, C şubelerindeki öğrenci sayısını göstermektedir. Bu sütun grafiğine uygun daire grafiği çizildiğinde A şubesine ait daire diliminin merkez açısının ölçüsü kaç derece olur?

- A) 60 B) 90 C) 120 D) 150

15. Öğrenci Sayısı



Yukarıdaki grafik bir kurstaki öğrencilerin yaşlarının dağılımını göstermektedir. 11 yaşından küçükler 1. katta, diğerleri 2. katta derslere girmektedir. Buna göre 1. katta toplam kaç öğrenci derse girer?

- A) 28 B) 33 C) 38 D) 43

16. Hilesiz iki zar havaya atılıyor. Üst yüze gelen sayıların toplamının 12'den küçük olma olasılığı nedir?

- A) $\frac{1}{18}$ B) $\frac{1}{3}$ C) $\frac{1}{2}$ D) $\frac{35}{36}$

17. Aralarında Celal'in de bulunduğu 7 kişi arasından 5 kişilik bir takım oluşturulacaktır. Celal'in bu takımda bulunma olasılığı nedir?

- A) $\frac{5}{7}$ B) $\frac{4}{7}$ C) $\frac{3}{7}$ D) $\frac{1}{7}$

18. Düzgün 3 madeni para havaya atıldığında üçünün de üst yüzüne tura gelme olasılığı nedir?

- A) $\frac{1}{2}$ B) $\frac{3}{8}$ C) $\frac{1}{4}$ D) $\frac{1}{8}$

19. Bir kutuda renkleri dışında aynı özelliğe sahip 3 mavi, 7 sarı, 5 kırmızı bilye vardır. Buna göre kutuya geri atılmamak şartıyla art arda çekilen 2 bilyenin sarı renkte olma olasılığı nedir?

- A) $\frac{1}{5}$ B) $\frac{2}{5}$ C) $\frac{3}{5}$ D) $\frac{4}{5}$

20. Bir sınıftaki öğrencilerin %70'i matematik dersinden, %60'ı Türkçe dersinden başarılı ve %10'u her iki dersten de başarılıdır. Buna göre bu sınıftan rastgele seçilen bir öğrencinin her iki dersten de başarılı olma olasılığı nedir?

- A) $\frac{1}{2}$ B) $\frac{2}{5}$ C) $\frac{3}{10}$ D) $\frac{1}{5}$

(611) KARŞ. DİN. TAR. – 1

1. Karşılaştırmalı dinler tarihi bir dini incelerken bu dinin hangi yönünü dikkate almaz?

- A) Dini kurumlarını
B) Hak-batıl durumunu
C) Karşılaştırmalı tarihini
D) İnanç, ibadet ve ahlâk sistemini

2. Karşılaştırmalı dinler tarihi ile ilgili aşağıda verilen bilgilerden hangisi yanlıştır?

- A) Herhangi bir dinin savunmasını yapmaz.
B) Dinler hakkında bilgi toplarken öncelikli olarak mitolojiden yararlanır.
C) Nitelendirici metot yanında karşılaştırma metodunu da kullanır.
D) Bir dinin doğuşu, gelişmesi ve yok olmasını incelerken tarih metoduna başvurur.

1. OTURUM

3. Din-toplum münasebetlerini ve bunlardan doğan olayları inceleyen bilim dalı aşağıdakilerden hangisidir?

- A) Din Felsefesi
- B) Din Psikolojisi
- C) Din Sosyolojisi
- D) Din Fenomolojisi

4. Akıl sahibi şuurlu insanları kendi irade ve arzularıyla hayırlı olan şeylere sevk eden ilahi kanunlara - - - - denir.

Boş bırakılan yere aşağıdakilerden hangisi getirilmelidir?

- A) Din
- B) Kutsal
- C) Hüküm
- D) Örf-adet

5. Aşağıdakilerden hangisi karşılaştırmalı dinler tarihinin hadis alanına sunduğu katkılardan biri değildir?

- A) Hadislerin daha doğru anlaşılması ve yorumlanmasına yardımcı olur.
- B) Hadislerin sahih olup olmadığının anlaşılmasına katkıda bulunur.
- C) Ayetlerden hüküm çıkarma metodlarının bilinmesine yardımcı olur.
- D) İslam'ın özüne ters düşen hadislerin kaynağının tespit edilmesine katkı sağlar.

6. Aşağıdakilerden hangisi diğer dinleri öğrenmenin Müslümanlara sağladığı yararlardan biri değildir?

- A) Diğer din mensuplarıyla sağlıklı bir iletişim kurmaya yol açar.
- B) Misyonerlik faaliyetlerini tanıtmaya ve bunlara karşı önlem almaya yardımcı olur.
- C) İslam'ın diğer din mensuplarına daha iyi anlatılmasına katkı sağlar.
- D) Müslümanların inanç esaslarını daha derinlemesine öğrenmelerine katkı sağlar.

7. İslam'a göre dinin kaynağı aşağıdakilerden hangisidir?

- A) Akıl
- B) Vahiy
- C) Kültür
- D) Örf-adet

8. "... Hiçbir millet yoktur ki kendisine bir uyarıcı gelip içlerinde kalmış olmasın." (Fâtır suresi, 24. ayet)
"... (Hâlbuki) sen ancak bir uyarıcısın ve her toplumun bir rehberi vardır." (Ra'd suresi, 7. ayet)

Verilen ayetlerden aşağıdaki sonuçlardan hangisi çıkarılamaz?

- A) Her topluma peygamber gönderilmiştir.
- B) İnsanlığa rehberlik eden bir uyarıcı her dönemde var olmuştur.
- C) Allah toplumlara peygamber olarak erkekleri göndermiştir.
- D) Peygamberler insanları yanlış yollardan alıkoyup, doğru yola iletmeye çalışmışlardır.

9. Kutsal bir hikâyenin anlatımıdır. Konusunu olup bitmiş gerçek olaylardan alır. Olmuş olayları mecazî bir dil ve semboller kullanarak insanların anlayabileceği şekilde anlatır.

Hakkında bilgi verilen kavram aşağıdakilerden hangisidir?

- A) Mitos
- B) Masal
- C) Efsane
- D) Destan

10. Aşağıdakilerden hangisi dinin insana kazandırdıklarından biri değildir?

- A) Erdemli davranışlar
- B) Kuvvetli bir irade, sağlam bir karakter
- C) İçten kuşatan, kucaklayan bir disiplin
- D) Maddeye değer verme ve sınırlı bir hürriyet

11. Yahudi tarihinde I. Mabet Dönemi olarak adlandırılan ve Hz. Süleyman'ın inşa ettiğine inanılan Bet-Hamikdaş isimli mabet, Kur'an-ı Kerim'de hangi isimle anılır?

- A) Beytül-Haram
- B) Beytül-Makdis
- C) Beytül-Hikme
- D) Beytül-Ma'mur

12. "... Onlar kelimelerin yerlerini değiştirirler. Kendilerine öğretilen ahkâmın (Tevrat'ın) önemli bir bölümünü unuttular..." (Mâide suresi, 13. ayet)

Verilen ayette aşağıdakilerden hangisi vurgulanmaktadır?

- A) Tevrat'ın kutsal kitap olduğu
- B) Tevrat'ın Hz. Musa'ya indirildiği
- C) Yahudilerin kutsal kitabı tahrif ettiği
- D) Kur'an-ı Kerim'de Tevrat'la ilgili bilgiler verildiği

13. Avrupa'da Hristiyanların zulmü ve Hristiyanlaştırma politikaları yüzünden ezilen Yahudileri İstanbul'a 1492 yılında yerleştiren padişah aşağıdakilerden hangisidir?

- A) II. Bayezit
- B) Sultan Abdülhamit
- C) Fatih Sultan Mehmet
- D) Kanuni Sultan Süleyman

14. Aşağıdakilerden hangisi Yahudilik ve İslam'ın ortak noktalarından biri değildir?

- A) Sünnet olmak
- B) Domuz eti yememek
- C) İbadethanelerine resim sokmamak
- D) Hz. Muhammed (sav.)'i peygamber olarak kabul etmek

15. Hristiyan inanç sistemindeki baba-oğul-kutsal ruh üçlemesi hangi kavramla ifade edilir?

- A) Takdis
- B) Afaroz
- C) Vaftiz
- D) Teslis

1. OTURUM

(617) SEÇ. DİL VE ANLA. – 7

16. I. Dini başkanları papadır.
II. Dini merkezleri Roma'dır.
III. Rahiplerin bekârlığı zaruridir.

Hakkında bilgi verilen Hristiyan mezhebi hangisidir?

- A) Katolik B) Ortodoks
C) Protestan D) Adventistler

17. Aşağıdakilerden hangisi ülkemizde bulunan Hristiyan gruplardan biri değildir?

- A) Rumlar B) Yezidiler
C) Ermeniler D) Süryaniler

18. İslam, dini tekeline alan ve insanların üzerinde hâkimiyet kuran din adamları sınıfının varlığını tanımaz. İnsanla Allah arasında aracı kabul etmez. Herkes Allah'a doğrudan ulaşabilir. Kişi sahip olduğu doğru inanç ve iyi amellerle Allah'ın rızasını kazanır ve kurtulur.

Bu metinde İslam'ın reddettiği anlayış aşağıdakilerden hangisidir?

- A) Teslis B) Taassup
C) Ruhbanlık D) Asli günah

19. Hinduizm'de dini bir inançtır. Aynı işle meşgul olan, görev ve gelenekleriyle birbirine sınımsız sarılan insanların meydana getirdiği birliktir. Bireyin şu anki hayatında çalışarak grubunu değiştirmeye imkânı yoktur.

Hakkında bilgi verilen kavram aşağıdakilerden hangisidir?

- A) Om B) Kast
C) Nirvana D) Meditasyon

20. Aşağıdaki dinlerden hangisi tek tanrı nancıyla ön plana çıkmaktadır?

- A) Hinduizm B) Caynizm
C) Budizm D) Sihizm

1. I. Okuyucuya bilgi vermek amacıyla yazılır.
II. Sade ve açık bir dil kullanılır.
III. Dil göndergesel işlevde kullanılır.
IV. Hayallere ve mecazlara yer verilir.

Yukarıdaki numaralanmış bilgilerden hangisi öğretici metinlerin özelliklerinden değildir?

- A) I. B) II.
C) III. D) IV.

2. Aşağıdakilerden hangisi anlatmaya bağlı türlerden değildir?

- A) Hikâye B) Roman
C) Tiyatro D) Fabl

3. Ders vermek amacıyla kahramanları hayvanlar ya da cansız varlıklar olan bir olayı genellikle manzum olarak anlatan yazılara ---- denir.

Bu cümlede boş bırakılan yere aşağıdakilerden hangisi getirilmelidir?

- A) fabl B) roman
C) hikâye D) şiir

4. Aşağıdakilerden hangisi masal türünün bölümlerinden değildir?

- A) Serim B) Öğüt
C) Çözüm D) Dügüm

5. Aşağıdaki eserlerden hangisi farklı bir türde yazılmıştır?

- A) Kelile ve Dimne
B) Açıl Sofram Açıl
C) Kırmızı Mantarlar
D) Kurnaz Tilki

6. ----, olaylar kahramanlarının kişileştirilmiş olmaları dışında dünyanın gerçeklerine uyar. ---- ise sihir, büyü, mucize, peri, dev gibi gerçek dışı öğeler ve fantastik olaylar bulunur.

Bu parçada boş bırakılan yerlere sırasıyla aşağıda verilenlerden hangisi getirilmelidir?

- A) Fablda – Masalda
B) Hikâyede – Masalda
C) Fablda – Öyküde
D) Masalda – Fablda

7. Aşağıdakilerden hangisi hikâyelerin temel öğelerinden değildir?

- A) Olay B) Zaman
C) Yer D) Yazar

8. Aşağıdakilerden hangisi durum hikâyesinin özelliklerinden değildir?

- A) Kişisel ve sosyal düşünceler, duygu ve hayaller ön plana çıkar.
B) Merak ögesi ikinci plandadır.
C) Hikâye beklenmedik bir sonla biter.
D) Gerçeklik abartılmadan anlatılır.

9. Aşağıdakilerden hangisi olay hikâyesinin temsilcilerinden değildir?

- A) Sait Faik Abasıyanık
B) Ömer Seyfettin
C) Yakup Kadri Karaosmanoğlu
D) Hüseyin Rahmi Gürpınar

10. Aşağıdakilerden hangisi hâkim (ilahi) bakış açısının özelliklerinden değildir?

- A) Kahramanların gizli konuşmalarını, kafalarından ve gönüllerinden geçenler anlatılır.
B) Her şeyi bilen bir anlatıcının bakış açısidir.
C) Anlatıcı zaman zaman kendi yorumlarını ekleyebilir.
D) Birinci kişili anlatım söz konusudur.

1. OTURUM

11. Aşağıdakilerden hangisi edebiyatımızın ilk tarihsel romanıdır?

- A) Cezmi B) Araba Sevdası
C) İntibah D) Telemak

12. Aşağıdakilerden hangisi realist romanlardan değildir?

- A) Savaş ve Barış
B) Mai ve Siyah
C) İntibah
D) Kiralık Konak

13. Dünya edebiyatında fabl türünde ün yapmış yazar aşağıdakilerden hangisidir?

- A) Gustave Flaubert
B) La Fontaine
C) Anton Çehov
D) Emile Zola

14. Aşağıdakilerden hangisi trajedinin özelliklerinden değildir?

- A) Erdeme ve ahlaka önem verilir.
B) Eser baştan sona kadar ciddi bir hava içinde geçer.
C) Seyircide acıma ve korku duyguları uyandırılarak ruhu tutkularından kurtarma amaçlanır.
D) Kişiler çoğunlukla halktan insanlardır.

15. - - - - komedyasında olaylar, merak uyandıracak ve şaşırtacak biçimde düzenlenir; çoğunlukla güldürmekten başka bir amaç güdülmez.

Bu cümlede boş bırakılan yere aşağıdakilerden hangisi getirilmelidir?

- A) Karakter B) Töre
C) Entrika D) Yergi

16. Aşağıdakilerden hangisi geleneksel Türk halk tiyatrosu türlerinden değildir?

- A) Karagöz B) Meddah
C) Orta oyunu D) Dram

17. Manzume ile şiir türünün karşılaştırıldığı aşağıdaki yargıların hangisinde bilgi yanlışı vardır?

- A) Şiirde anlatılanların düzyazıyla ifade edilmesi güçtür, manzumede anlatılanlar ise düzyazı ile ifade edilebilir.
B) Şiirde olay örgüsü yoktur, manzumede vardır.
C) Şiirde bireysellik, duygu ve çağrışımlar ön plandadır; manzumede yaşanmış ya da yaşanabilecek olaylar işlenir.
D) Şiirde sözcükler gerçek anlamda kullanılırken manzumede çok anlamlılık ve imge ağır basmaktadır.

18. Aşağıdakilerden hangisi klasik Türk şiiri nazım biçimlerinden biri değildir?

- A) Kaside B) Sone
C) Mesnevi D) Şarkı

19. Elifim uğru nakışlı
Yavru balaban bakışlı
Yayla çiçeği kokuşlu
Kokar Elif Elif diye

Bu dördlükte “ı” ve “y” seslerinin tekrar edilmesiyle aşağıdaki ahenk unsurlarından hangisi sağlanmıştır?

- A) Aliterasyon
B) Cinas
C) Redif
D) Kafiye

20. Güzel şeyler düşünelim diye
Yemyeşil oluvermiş ağaçlar

Bu dizelerde aşağıdaki söz sanatlarından hangisi vardır?

- A) Tezat
B) Hüsnitalil
C) Tenasüp
D) Kinaye

(618) SEÇ. DİL VE ANLA. – 8

1. Aşağıdakilerden hangisi bilimsel yazılar için söylenemez?

- A) Bilimsel buluşları iletmek için yazılır.
B) Yoğun ve kapalı bir anlatımla okura sunulur.
C) Alanlarında gerekli donanımlara sahip kişilerce yazılır.
D) Geniş bir araştırmaya dayanır.

2. - - - - dil ağırlıklı olarak göndergesel işlevde kullanılırken - - - - ise alıcıyı harekete geçirme işlevinde kullanılır.

Bu cümlede boş bırakılan yerlere aşağıdakilerden hangileri sırasıyla getirilmelidir?

- A) Söylevde – sempozyumda
B) Konferansta – söylevde
C) Münazarada – forumda
D) Söylevde – konferansta

3. Aşağıdakilerin hangisi açık oturumun özelliklerinden biri değildir?

- A) Problemlere yeni bakış açıları getirmek amaçlanır.
B) Konuya hâkim olan bir başkan tarafından yönetilir.
C) Sonuç bölümünde oturumun genel değerlendirilmesi yapılır.
D) Yarışma havasında gerçekleştirilir.

4. Aşağıdakilerden hangisi sempozyum bildirisinin bölümlerinden değildir?

- A) Deney B) Giriş
C) Çözüm D) Bulgular

1. OTURUM

5. - Dinleyicilerin konu üzerinde daha aktif düşünmelerini sağlar.
- Bir iş ya da meslekte, bir kurumda çalışan insanların kendi sorunları üzerinde yapılan bir toplantı olarak uygulanmaktadır.

Bu özellikler aşağıdaki sözlü anlatım türlerinin hangisine aittir?

- A) Foruma
B) Sempozyuma
C) Açık oturuma
D) Konferansa

6. **Aşağıdakilerden hangileri konferansların özelliklerinden değildir?**

- A) Dinleyicileri bilgilendirip aydınlatmak amaçlanır.
B) Dil, alıcıyı harekete geçirme işlevinde kullanılır.
C) Sözlü anlatım tekniklerine uyulur.
D) Düşünceler bir bütünlük içinde verilir.

7. Toplumunu ilgilendiren bir konuda, farklı kesimlerden oluşan dinleyicilerin söz sırası olarak konuşma kuralları içerisinde yaptıkları tartışmalara - - - - denir.

Bu cümlede boş bırakılan yere aşağıdakilerin hangisi getirilmelidir?

- A) açık oturum B) münazara
C) forum D) sempozyum

8. **Sempozyum ile konferansın karşılaştırıldığı aşağıdaki yargıların hangisinde bir bilgi yanlış vardır?**

- A) Sempozyum bildirisinde de konferans gibi bir dinleyici topluluğu önünde okunur.
B) Sempozyumda konuşma becerisi ön plandayken konferansta buna dikkat edilmez.
C) Sempozyum bildirisinin dili konferansa göre daha bilimseldir.
D) Konferans genelde tek oturum sürerken sempozyum birkaç oturum sürebilir.

9. - - - -, görüş ve karşı görüşün (tez ve antitez) bir hakem kurulu karşısında tartışılması esasına dayanır.

Bu cümlede boş bırakılan yere aşağıdakilerden hangisi getirilmelidir?

- A) Forum
B) Münazara
C) Sempozyum
D) Açık oturum

10. **Aşağıda verilen konuların hangisinde münazara yapılabilir?**

- A) İklim değişikliği ve olası etkileri nelerdir?
B) Tehlikeli atıkların yönetiminde karşılaşılan sorunları belirtiniz.
C) Ormanların korunmasında yasalar mı çevre bilinci mi daha etkilidir?
D) Çevre kirliliğinin önlenmesi için nasıl çözüm yolları bulunmalıdır?

11. **Aşağıdaki türlerin hangisinde grup tartışması yoktur?**

- A) Münazara
B) Açık oturum
C) Panel
D) Konferans

12. Bilimsel yazıların bu bölümünde, makalede ifade edilenlerin kolay ve doğru anlaşılmasına yarayacak temel bilgiler verilmelidir. Ayrıca makaleye konu olan araştırmada nasıl bir yöntem izlendiği ve bu yöntemin seçiliş sebebi de bu bölümde ortaya konmalıdır.

Bu parçada bilimsel yazıların hangi bölümünden söz edilmektedir?

- A) Giriş
B) Özet
C) Asıl metin
D) Sonuç ve tartışma

13. - Okullarda öğrencileri daha iyi yetiştirme isteğiyle düzenlenir.
- Öğrencilerin konuşma yeteneğinin gelişmesine, ders dışında araştırma yapmalarına yardımcı olur.
- Amaç seçilen konunun doğru ya da yanlış olması değil, düşüncesini en iyi savunan grubu seçmektir.

Bu özellikler aşağıdaki tartışma türlerinden hangisine aittir?

- A) Münazara
B) Forum
C) Konferans
D) Açık oturum

14. **Aşağıdaki dipnot örneklerinden hangisinin yazımı doğrudur?**

- A) Mehmet Kaplan, Dergâh Yayınları, Hikâye Tahlilleri, 10. Baskı, İstanbul 2004.
B) Dergâh Yayınları, Hikâye Tahlilleri, Mehmet Kaplan, 10. Baskı, İstanbul 2004.
C) İstanbul 2004, Dergâh Yayınları, Mehmet Kaplan, Hikâye Tahlilleri, 10. Baskı, İstanbul 2004.
D) Mehmet Kaplan, Hikâye Tahlilleri, Dergâh Yayınları, 10. Baskı, İstanbul 2004.

15. **Aşağıdakilerden hangisi bilimsel yazılarda tercih edilen anlatım türlerinden biri değildir?**

- A) Açıklayıcı B) Kanıtlayıcı
C) Öyküleyici D) Öğretici

16. **Aşağıdakilerden hangisi bilimsel yazı olarak değerlendirilemez?**

- A) Tarama ve değerlendirme
B) Konferans raporları
C) Roman özetleri
D) Ekolojik denge konulu bir makale

1. OTURUM

17. Aşağıdakilerden hangisi sözlü anlatım türlerindendir?

- A) Konferans B) Makale
C) Deneme D) Eleştiri

18. Aşağıdakilerden hangisi makale türünün özelliklerinden değildir?

- A) Terimlere, teknik deyimlere yer verilir.
B) Bilimsel nitelik taşıyan yazıdır.
C) Nesnel verilere sık sık başvurulur.
D) Bilimsel konuların dışına çıkılamaz.

19. Aşağıdakilerden hangisi yazdığı makalelerle Cumhuriyet Dönemi'nin ilk yıllarında dikkati çeken gazetecilerdendir?

- A) İbrahim Şinasi
B) Namık Kemal
C) Falih Rıfkı Atay
D) Agâh Efendi

20. Gelişme ve yetişme çağındaki çocukların dil düzeyine, duygu ve düşünce dünyasına, anlama ve kavrama becerilerine seslenen edebiyata "Çocuk Edebiyatı" diyoruz. Edebiyat, çocuğun zevk ve güzellik duygusunun gelişmesine zemin hazırlar. Çocuk edebiyatı, eğitici yönüyle de öne çıkan bir edebiyattır.

Bu parçada hangi anlatım türünden yararlanılmıştır?

- A) Öğretici anlatım
B) Betimleyici anlatım
C) Öyküleyici anlatım
D) Destansı anlatım

(624) SEÇ. TÜRK ED. – 4

1. Birçok eserinde çağının sosyal gelişmeleri üzerinde durduğu hâlde, gazellerinde güzellik duygusunu işlemiştir. Gazellerini edebî sanatlarla süsleyen şair, renkli bir anlatıma ulaşmıştır. Kendisinden sonra gelen birçok kişiyi etkileyen sanatçının "İskendername" adlı mesnevisi vardır.

Bu parçada tanıtılan sanatçı aşağıdakilerden hangisidir?

- A) Âşık Paşa
B) Ahmedi
C) Süleyman Çelebi
D) Fuzuli

2. Dede Korkut Hikâyeleri ile ilgili aşağıdakilerden hangisi söylenemez?

- A) On iki hikâyeden oluşmaktadır.
B) Oğuzların kendi içlerinde ve düşmanlarıyla yaptıkları mücadeleler anlatılır.
C) Hikâyeler birbirinden bağımsızdır ve hiç ortak kahraman yoktur.
D) Nesir şeklinde yazılan eserde nazım bölümleri de vardır.

3. Aşağıdakilerden hangisi divan edebiyatının özelliklerinden biri değildir?

- A) Büyük ölçüde Arap ve Fars edebiyatının etkisinde kalmıştır.
B) Şairler söz sanatlarına çokça yer vermişlerdir.
C) Aruz ölçüsü kullanılmıştır.
D) Koşma, semai gibi nazım şekilleri kullanılmıştır.

4. Divan edebiyatında kaside ve hicivleriyle öne çıkan sanatçı aşağıdakilerden hangisidir?

- A) Nedim B) Nef'i
C) Fuzuli D) Baki

5. Aşağıdakilerin hangisi divan edebiyatının süslü nesir sanatçılarında biri değildir?

- A) Veysi B) Evliya Çelebi
C) Âşık Çelebi D) Fatih

6. Gazelin ilk beytine matla, son beytine makta denir. Gazelde tek bir konu işleniyorsa beytül gazel, bütün beyitler aynı güzellikte ise yek avaz gazel denir.

I
II
III
IV

Bu parçadaki altı çizili kısımların hangisi yanlış açıklanmıştır?

- A) I. B) II. C) III. D) IV.

7. Aşağıdakilerden hangisi divan edebiyatında dörtlükle yazılan nazım şekillerinden biri değildir?

- A) Kaside B) Tuyuğ
C) Murabba D) Rubai

8. Aşağıdakilerden hangisi İslami Dönem'e geçişte görülen ilk eserlerin özelliklerinden biri değildir?

- A) Dinî değerlere bağlılığı anlatmak
B) Arapça sözcüklere yer vermek
C) Hakanîye lehçesiyle yazılmış olmak
D) İslamiyet öncesi şiirin şekil özelliklerini bütünüyle korumak

9. Aşağıdakilerden hangisi mesnevi türünün özelliklerinden biri değildir?

- A) Nazım birimi beyittir.
B) En az 33, en fazla 99 beyitten oluşur.
C) Uyak düzeni aa/bb/cc ... biçimindedir.
D) En uzun nazım biçimidir.

1. OTURUM

10. Aşağıdakilerden hangisi divan edebiyatının özelliklerinden biridir?

- A) Geniş halk kitlelerine hitap edilir.
- B) İslamiyet öncesi Şamanizm inancının etkisinde gelişmiştir.
- C) Yalın bir dil kullanılır.
- D) Düzyazı; süslü, orta ve sade olmak üzere üçe ayrılır.

11. Aşağıdaki eşleştirmelerden hangisi yanlıştır?

- A) Kutadgu Bilig - Aruzla yazılan ilk eser
- B) Hoca Dehhani - Divan edebiyatının kurucusu
- C) Hacı Bayram-ı Veli - Yesevilik tarikatının kurucusu
- D) Yunus Emre - Tasavvuf edebiyatı

12. Aşağıdakilerden hangisi geleneksel Türk tiyatrosu çeşitlerinden değildir?

- A) Komedi
- B) Orta oyunu
- C) Karagöz
- D) Köy seyirlik oyunu

13. "Danışmendname" ile ilgili olarak aşağıdakilerden hangisi söylenemez?

- A) Halkın kolay anlayabileceği bir dille yazılmıştır.
- B) Aruz ölçüsüyle yazıya geçirilmiştir.
- C) Düzyazı hâlinde oluşmuş bir eserdir.
- D) Danışmend Gazi'nin İslamiyet uğruna verdiği mücadeleler anlatılmaktadır.

14. İlahi türü ile ilgili aşağıdaki verilen bilgilerden hangisi yanlıştır?

- A) Hece ölçüsünün 7'li, 8'li kalıpları kullanılır.
- B) Allah, peygamber, din sevgisi anlatılır.
- C) Ezgili bir söyleyişi vardır.
- D) Söyleyeni belli değildir.

15. Aşağıdaki eserlerden hangisi Kâtip Çelebi'ye ait değildir?

- A) Fezleke
- B) Cihannuma
- C) Dilgüşa
- D) Keşfu'z Zünun

16. Eski edebiyatımızda romanın yerini tutan Battalname, Saltukname ve Danışmendname'nin konusu aşağıdakilerden hangisidir?

- A) Aşk
- B) Göç
- C) Ayrılık
- D) Kahramanlık

17. Aşağıdakilerden hangisi orta oyunu oyuncularından biri değildir?

- A) Meddah
- B) Pişekâr
- C) Kavuklu
- D) Zenne

18. XVII. yüzyılın hattat, nakkaş, musikişinaslarından olan ve asıl ününü dünyaca tanınmış "Seyahatname" adlı eseriyle kazanan yazar aşağıdakilerden hangisidir?

- A) Âşık Çelebi
- B) Evliya Çelebi
- C) Kâtip Çelebi
- D) YirmiSekiz Mehmet Çelebi

19. Âşık edebiyatı ile ilgili olarak aşağıdakilerden hangisi söylenemez?

- A) Nazım birimi beyittir.
- B) Şiirlerde daha çok yarım uyak tercih edilir.
- C) En çok kullanılan nazım şekilleri koşma ve semaidir.
- D) Aşk, ayrılık, güzellik, ölüm, tabiat, kahramanlık gibi konular işlenmiştir

20. Aşağıdakilerden hangisi kasideinin son bölümüdür?

- A) Tegazzül
- B) Medhiye
- C) Fahriye
- D) Dua

(627) SEÇ. TÜRK ED. - 7

1. Aşağıdakilerden hangisi Garip akımının özelliklerinden biri değildir?

- A) Yalın bir dil kullanmak
- B) Günlük konuları ele almak
- C) Süsten uzak bir anlatımı tercih etmek
- D) Ölçülü, uyaklı bir şiir anlayışı oluşturmak

2. Eserlerinde köy gerçeğini değişik boyutlarıyla ele alan iki yazar aşağıdakilerden hangisidir?

- A) Oğuz Atay - Yusuf Atılgan
- B) Yaşar Kemal - Kemal Tahir
- C) Orhan Pamuk - Attila İlhan
- D) Peyami Safa - Ahmet Hamdi Tanpınar

3. Aşağıdakilerden hangisi Orhan Kemal'in eserlerinden biri değildir?

- A) Kardeş Payı
- B) İspinozlar
- C) Evcilik Oyunu
- D) Bekçi Murtaza

4. Faruk Nafiz Çamlıbel'in, Ulukışla yoluyla Kayseri'ye gidişinin izlenimlerinden oluşan, memleketçi şiirin örneklerinden olan eser aşağıdakilerden hangisidir?

- A) Olvido
- B) Han Duvarları
- C) Deniz Hasreti
- D) Otuz Beş Yaş Şiiri

5. Aşağıdakilerden hangisi toplumcu şiirin temsilcilerinden biri değildir?

- A) Rifat Ilgaz
- B) Arif Damar
- C) Ahmet Arif
- D) Oktay Rifat

1. OTURUM

6. Aşağıdaki eser-yazar eşleştirmelerinden hangisi doğrudur?

- A) Abdullah Efendi'nin Rüyaları - Ahmet Hamdi Tanpınar
- B) Zeliş - Sait Faik Abasıyanık
- C) Çalığı - Peyami Safa
- D) Fatih Harbiye - Reşat Nuri Güntekin

7. Oyunlarıyla tiyatromuza büyük katkı yapmıştır. İnsanın içinde bulunduğu durumu ironik bir bakışla değerlendirir. Oyunlarından bazıları şunlardır: Fehim Paşa Konağı, Bir Şehnaz Oyun, Sarıpınar 1914...

Bu parçada tanıtılan sanatçı aşağıdakilerden hangisidir?

- A) Haldun Taner
- B) Turgut Özakman
- C) Melih Cevdet Anday
- D) Turan Oflazoğlu

8. Aşağıdakilerden hangisi Beş Hececiler'in ortak özelliği değildir?

- A) Şiirde hece ölçüsünü kullanmaları
- B) Divan şiiri geleneğinden yararlanmaları
- C) Nazım birimi olarak dörtlük kullanmaları
- D) Şiirde kafiye ve redife yer vermeleri

9. Memleketçi edebiyata tepki olarak ortaya çıktılar. Çıkardıkları ortak kitabın adıyla anıldılar. Topluluğun en güçlü şairi Ziya Osman Saba'dır.

Bu parçada özellikleri verilen topluluk aşağıdakilerden hangisidir?

- A) Garipçiler
- B) Maviciler
- C) Yedi Meşaleciler
- D) Hisarcılar

10. Aşağıdakilerin hangisinde bilgi yanlışı vardır?

- A) Asaf Halet Çelebi, şiirlerinde Doğu mistisizmi ile tasavvufu birleştirdi.
- B) Fazıl Hüsnü Dağlarca ilk şiirlerinden sonra hayal ve sembollerle dolu şiirler yazdı.
- C) Cahit Külebi çok derinden duyduğu Anadolu'yu, aşk, hasret ve üzüntülerini anlatan lirik şiirler yazdı.
- D) Behçet Necatigil, şiirlerinde bireyi değil toplumsal yapıyı ele aldı.

11. "Otuz Beş Yaş" şiiri aşağıdaki sanatçılardan hangisine aittir?

- A) Cahit Sıtkı Tarancı
- B) Bedri Rahmi Eyüboğlu
- C) Ahmet Muhip Diranas
- D) Ömer Bedrettin Uşaklı

12. Aşağıdakilerin hangisinde bilgi yanlışı vardır?

- A) Cevat Şakir Kabaağaçlı, eserlerini Halikarnas Balıkcısı takma adıyla yazmıştır.
- B) Yaşar Kemal'in romanlarında tabiat ve insan sevgisi ağır basar, romanı destana yaklaştırır.
- C) Haldun Taner'in oyunlarında ince ironi ve sanat endişesi göze çarpar.
- D) Sait Faik Abasıyanık, olay hikâyesinin en önemli temsilcilerinden biridir.

13. Aşağıdaki sanatçı – eser eşleştirmelerinin hangisi yanlıştır?

- A) Refik Erduran – Cengiz Han'ın Bisikleti
- B) Orhan Asena – Gılgamış
- C) Turan Oflazoğlu – Fazilet Eczanesi
- D) Güngör Dilmen – Midas'ın Kulakları

14. Cumhuriyet Dönemi Türk Edebiyatı'nın başlangıcı için ölçü alınan siyasi gelişme aşağıdakilerden hangisidir?

- A) I. Dünya Savaşı'nın bitmesi
- B) Türk Dil Kurumu'nun açılması
- C) Kurtuluş Savaşı'nın kazanılması
- D) Cumhuriyet'in ilan edilmesi

15. Aşağıdakilerden hangisi Cumhuriyet Dönemi Türk Edebiyatı'nın genel özelliklerinden biri değildir?

- A) Divan edebiyatının dil özellikleri benimsemiştir.
- B) Konu ve mekân olarak Anadolu işlenmiştir.
- C) Köy yaşamı eserlerde işlenmiştir.
- D) Yazı ve konuşma dili ayrımı kaldırılmıştır.

16. Aşağıdakilerden hangisi Cumhuriyet Dönemi'nde görülen edebî topluluklardan biridir?

- A) Tanzimatçılar
- B) Servetifünuncular
- C) Yeni Lisancılar
- D) Yedi Meşaleciler

17. Aşağıdakilerden hangisi Cumhuriyet Dönemi sanatçılarından biri değildir?

- A) Tevfik Fikret
- B) Cahit Külebi
- C) Ziya Osman Saba
- D) Ahmet Muhip Diranas

18. Edebiyatımızda ilk örneği "Tercüman-ı Ahval Mukaddimesi" olarak bilinen edebî tür aşağıdakilerden hangisidir?

- A) Deneme
- B) Eleştiri
- C) Makale
- D) Gezi Yazısı

1. OTURUM

(628) SEÇ. TÜRK ED. – 8

19. Aşağıdakilerden hangisi fıkra türünün özelliklerinden biri değildir?

- A) Makaleye göre daha kısa bir yazı türüdür.
- B) Gazete ve dergilerin yaygınlaşmasıyla gelişim göstermiştir.
- C) Bilimsel gerçekler ortaya konur.
- D) Okuru uyarmak ve düşünmeye yöneltmek amacı vardır.

20. Aşağıdakilerden hangisi gezi yazısının özelliklerinden biri değildir?

- A) Amaç, görülen yerleri tanıtmaktır.
- B) Anlatımı inandırıcı olmalı, düşünce kanıtlanmalıdır.
- C) İlgi çekecek nitelikteki özellikler dile getirilir.
- D) Gezilen yerler uzun betimlemelerle anlatılır.

1. Aşağıdakilerden hangisi Türk edebiyatında hikâye türünün önde gelen yazarlarından biri değildir?

- A) Ömer Seyfettin
- B) Sait Faik Abasıyanık
- C) Mehmet Akif Ersoy
- D) Memduh Şevket Esenal

2. "Kara Kitap" aşağıdaki sanatçıların hangisi tarafından yazılmıştır?

- A) Fakir Baykurt
- B) Orhan Pamuk
- C) Oğuz Atay
- D) Enis Batur

3. Aşağıdakilerden hangisi İkinci Yeni şiirinin özelliklerinden biridir?

- A) Bireyci bir şiir anlayışına sahip olmak
- B) Yaşama sevincini ve yaşama hakkını işlemek
- C) Gülmecedan ve şaşkıncıdan yararlanmak
- D) Süslü, söz oyunlarına dayalı bir dil yerine yalın bir dil geliştirmek

4. Aşağıdakilerden hangisi "Kuyucaklı Yusuf" adlı eserin yazarıdır?

- A) Sabahattin Ali
- B) Mehmet Günsür
- C) Ayfer Tunç
- D) Nazlı Eray

5. Aşağıdaki eser-yazar eşleştirmelerinden hangisi yanlıştır?

- A) Divan - Turgut Uyar
- B) Türkiye Şarkısı - İlhan Berk
- C) Uçurumda Açan - Cemal Süreya
- D) Kendi Gök Kubbemiz - Ece Ayhan

6. Aşağıdaki eserlerden hangisi Yusuf Atılgan tarafından yazılmıştır?

- A) Anayurt Oteli
- B) Tutunamayanlar
- C) Havada Bulut
- D) Yeni Hayat

7. Aşağıdakilerden hangisi 1980 sonrası şiirin özelliklerinden biri değildir?

- A) Şiirin düzyazıya yaklaştırılması
- B) Şehirli kimliğinin ön planda olması
- C) Yapı ve söyleyişe içerikten fazla önem verilmesi
- D) Millî Edebiyat akımının etkisiyle sadece hece ölçüsünün kullanılması

8. Güzelliğin on par'etmez
Bu bendeki aşk olmasa
Eğlenecek yer bulaman
Gönlümdeki köşk olmasa
Bu şiirde işlenen tema aşağıdakilerden hangisidir?

- A) Aşk
- B) Gurbet
- C) Özlem
- D) Yalnızlık

9. İlk şiirlerinde biçim kaygısı ağır basar. Eski şiirle bağını sestem çok imgeyle kurar ve çağrışımlardan yararlanır. Şiiri; ince buluşların, duygulanımların, yaşanan gerçekliğin, kendine özgü bir söyleyişin toplamıdır. "Üvercinka, Fotoğraf" önemli şiirleri arasındadır.

Bu parçada tanıtılan sanatçı aşağıdakilerden hangisidir?

- A) Turgut Uyar
- B) Edip Cansever
- C) Sezai Karakoç
- D) Cemal Süreya

10. Aşağıdakilerden hangisi Cumhuriyet Dönemi halk şairlerinden değildir?

- A) Âşık Veysel
- B) Şeref Taşlıova
- C) Murat Çobanoğlu
- D) Behçet Necatigil

1. OTURUM

11. Aşağıdakilerden hangisi Cumhuriyet Dönemi halk şiiri- nin özelliklerinden değildir?

- A) Nazım birimi olarak dördlük kullanılmıştır.
- B) Şiirler serbest ölçüyle yazılmıştır.
- C) Genellikle yarım uyak kullanılmıştır.
- D) Doğa güzellikleri, kahramanlık, gurbet, ölüm gibi temalar işlenmiştir.

12. Kardır yağın üstümüze geceden Yağmurla karanlık bir düşünceden Ormanın uğultusuyla birlikte Ve dörtnala dümdüz bir mavilikte Kar yağıyor üstümüze inceden **Bu dizelerle ilgili aşağıdakilerden hangisini söylemek yanlış olur?**

- A) 11'li hece ölçüsüyle yazılmıştır.
- B) Redif kullanılmıştır.
- C) Garip şiirin etkisiyle yazılmıştır.
- D) Doğa güzelliklerinden söz edilmiştir.

13. Aşağıdakilerden hangisi Yahya Kemal Beyatlı'nın edebî özelliklerinden biri değildir?

- A) Vatan, millet, İstanbul sevgisi gibi temaları işlemiştir.
- B) Şiirlerinin çoğunu aruz ölçüsüyle yazmıştır.
- C) Hikâyelerinde lirik bir anlatım kullanmıştır.
- D) Şiirde iç ahenge ve musikiye önem vermiştir.

14. Aşağıdakilerden hangisi "öz şiir" anlayışının özelliklerinden biri değildir?

- A) Sanat, topluma yön verme görevine sahiptir.
- B) Sanat, hiçbir ideolojinin egemenliğinde olmamalıdır.
- C) Sanat, sanat için yapılmalıdır.
- D) Şiir anlaşılmaktan çok duyulmak, hissedilmek için yazılır.

15. Aşağıdakilerden hangisi Garip Hareketi'nin özelliklerinden biridir?

- A) Anadolu ve Anadolu insanı şiirlerde anlatılır.
- B) Yurdun güzellikleri, yurdu kurtarmak için verilen mücadele konu olarak işlenir.
- C) Uyak ve ölçüye karşı çıkılır.
- D) Süslü, söz oyunlarına dayalı bir dil kullanılır.

16. Şiirlerinde evler, odalar, sokak, doğa konularını işlemiştir. Ev konusunu çok işlemesi nedeniyle "evler şairi" olarak anılmıştır. Bir anlayışın egemenliğine girmeden kendine özgü bir şiir dünyası kurmuştur. Halk kültüründen aldığı unsurları Batı şiiri ile birleştirmiştir. Radyo oyunları da yazmıştır. "Kapalı Çarşı, Evler, Eski Toprak" eserlerinden bazılarıdır.

Bu parçada tanıtılan sanatçı aşağıdakilerden hangisidir?

- A) Cahit Külebi
- B) Sezai Karakoç
- C) Behçet Necatigil
- D) Asaf Halet Çelebi

17. Trrum

trrum

trrum!

trak tiki tak

Makineleşmek istiyorum

Beynimden, etimden, iskeletimden geliyor bu!

Yukarıdaki dizeler Nazım Hikmet'in hangi edebî akımdan etkilendiğini göstermektedir?

- A) Realizm
- B) Fütürizm
- C) Romantizm
- D) Klasisizm

18. "Havaya Çizilen Dünya" ilk şiir kitabıdır. Halk şiiri geleneğinden modern tarza uzanan geniş bir alandaki biçim özelliklerini denemiştir. Yenilik peşinde koşan, sürekli kendini yenilemeye çalışan biridir. Kurtuluş Savaşı süresince anlattığı "Çakır'ın Destanı, Üç Şehitler Destanı" gibi eserleri nedeniyle "destan şairi" olarak da anılır.

Bu parçada özellikleri tanıtılan sanatçı aşağıdakilerden hangisidir?

- A) Ahmet Hamdi Tanpınar
- B) Fazıl Hüsni Dağlarca
- C) Asaf Halet Çelebi
- D) Bedri Rahmi Eyüpoğlu

19. Mavi dergisini çıkarmış, Mavici akımın temsilcisi olmuştur. Garip şiirini çok basit, II. Yeni şiirini karışık ve zayıf bularak ikisine de karşı çıkmıştır. Bazen bireyci bazen toplumcu bir çizgide aşk, barış, özgürlük, insan sevgisi gibi konuları işlemiştir. "Tutkunun Günlüğü, Sisler Bulvarı, Ben Sana Mecburum" şiir kitaplarından bazılarıdır.

Bu parçada tanıtılan sanatçı aşağıdakilerden hangisidir?

- A) Attila İlhan
- B) Ahmet Oktay
- C) Hilmi Yavuz
- D) İlhan Geçer

20. Aşağıdakilerden hangisi Necip Fazıl Kısakürek'in işlediği ana temalardan biridir?

- A) Dünyanın güzellikleri
- B) Madde ve ruh problemleri
- C) Batı'ya olan hayranlık
- D) Deniz özlemi

1. “İslam tarihi - - - - bir bilimdir.”

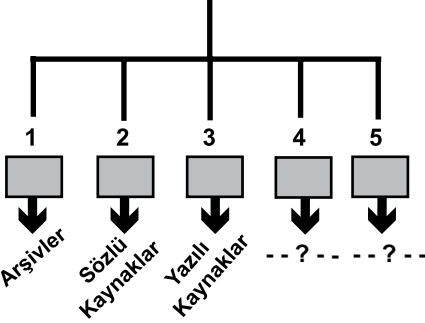
Verilen cümlede boş bırakılan yere, aşağıdakilerden hangisi yazılmalıdır?

- A) edebî B) sosyal
C) sayısal D) estetik

2. İslam tarihinin ilk ve en önemli kaynağı, aşağıdakilerden hangisidir?

- A) Hadisler
B) Tefsirler
C) Kur'an-ı Kerim
D) Tercim kitapları

3. İSLAM TARİHİ KAYNAKLARI



Verilen şemada boş bırakılan 4. ve 5. maddelere gelmesi gerekenler, aşağıdakilerin hangisinde birlikte verilmiştir?

- | 4 | 5 |
|-------------------|---------------|
| A) Kitabeler | Ahitnameler |
| B) Mimari Eserler | Örf - Adetler |
| C) Müzelik | Rivayetler |
| D) Müzelik | Açık Hava |

4. Tarihte “Fil Yılı” olarak bilinen olay, miladi kaç yılında gerçekleşmiştir?

- A) 571 B) 610
C) 622 D) 630

1. OTURUM

5. Arap Yarımadası'nın Bahreyn Bölgesi'ni içine alan bölgesine ne ad verilir?

- A) Tihame B) Hicaz
C) Necid D) Arud

6. “- - - - yapılan savaflara Ficâr Savafları denir.”

Verilen cümlede boş bırakılan yere, aşağıdakilerden hangisi yazılmalıdır?

- A) Üç aylarda
B) Haram aylarda
C) Ramazan ayında
D) Kurban bayramında

7. • Ukâz
• Mina
• Suhâr
• Debâ

Verilen kavramlar, aşağıdakilerden hangisiyle ilişkilendirilebilir?

- A) Ünlü Arap kabileleri
B) Kâbe'deki dört büyük put
C) Meşhur panayır merkezleri
D) Arap Yarımadası'nda kurulan devletler

8. Hanifler, aşağıdaki hangi peygamberin dinini yaşatmaya çalışırlardı?

- A) Hz. İdris B) Hz. Musa
C) Hz. Âdem D) Hz. İbrahim

9. Allah, Hz. Muhammed'e peygamberliğinin kaçınıcı yılında İsra ve Miraç mucizeleri ile ilahî lütuf ve ihsanlarda bulunmuştur?

- A) 21. B) 15. C) 11. D) 8.

10. Mekkelilerin, Bedir Savaşı'nın intikamını almak ve Müslümanları ortadan kaldırmak istemeleri, aşağıdaki hangi savaşın nedenlerinden birini oluşturur?

- A) Mute B) Uhut
C) Hendek D) Huneyn

11. Hz. Muhammed'in son seferi, aşağıdakilerden hangisidir?

- A) Tebük B) Taif
C) Mekke D) Hayber

12. Hz. Ebu Bekir Dönemi'nde Kur'an-ı Kerim'in özgün hâlinin korunması amacıyla, aşağıdakilerden hangisi yapılmıştır?

- A) Kur'an-ı Kerim cem edilmiştir.
B) Kur'an ayetleri deri parçaları üzerine yazılmıştır.
C) Kur'an-ı Kerim çoğaltılarak valiliklere gönderilmiştir.
D) Kur'an-ı Kerim ayetlerinin tüm Müslümanlardan ezberlenmesi istenmiştir.

13. Kıbrıs Adası, hangi halife döneminde İslam egemenliğine girmiştir?

- A) Hz. Ali B) Hz. Ebu Bekir
C) Hz. Ömer D) Hz. Osman

14. Cemel Olayı'nda Hz. Ali, aşağıdakilerden hangisiyle savaşmıştır?

- A) Abdullah bin Zübeyr
B) Hz. Muaviye
C) Hz. Aişe
D) Hz. Osman

15. Aşağıdakilerden hangisi “Birlik Yılı” ile ilgili doğru bir bilgi değildir?

- A) Birlik Yılı'na Âmü'l - Cemaat'da denir.
B) İslam Devleti'nin kuruluşundan yaklaşık 40 yıl sonra yaşanmıştır.
C) Hz. Muaviye ile Hz. Ali arasında yaşanan Sıffin Olayı ile ilişkilidir.
D) Hz. Hasan'ın, Muaviye'nin hali-feliğini tanımasıyla oluşan dostluk ortamına verilen isimdir.

1. OTURUM

(811) KELAM – 1

16. • Tövbe edenler anlamına gelir.
• Hz. Hüseyin'i ısrarla Kûfe'ye davet etmişler, daha sonra da onu yalnız bırakarak yakınları ile Kerbela'da şehit edilmelerine sebep olmuşlardır.
• Hz. Ali evladının intikamını almak üzere oluşturulan siyasi bir hareket olarak kabul edilirler.

Hakkında kısa bilgi verilen grup, aşağıdakilerden hangisidir?

- A) Tevvabûn B) Zeydiyye
C) Hariciler D) Muvahhitler

17. Halife Yezid, Kerbela Olayı'ndan sonra ayaklanan Medinelileri cezalandırmak için ordusunun başına, aşağıdakilerden hangisini getirmiştir?

- A) Yusuf bin Haccac
B) Müslim bin Ukbe
C) Müslim bin Âkil
D) Zeyd bin Ali

18. Halife Muaviye, iç istikrarı sağladıktan sonra yeniden fetihlere başlamıştır.

Aşağıdakilerden hangisi Muaviye'nin fetihlerini yoğunlaştırdığı bölgelerden biri değildir?

- A) Irak B) Mısır
C) Suriye D) İspanya

19. Hariciler sorunu, aşağıdaki hangi Emevi halifesi döneminde barışçıl bir yolla çözülmüştür?

- A) I. Velit Abdülmelik
B) Ömer bin Abdülaziz
C) Hişam bin Abdülmelik
D) Abdülmelik bin Mervan

20. Endülüs Emevi Devleti'nin 976 - 1008 yılları arasındaki dönemine ne ad verilir?

- A) Âmirîler Dönemi
B) Emirlik Dönemi
C) Valiler Dönemi
D) Fetret Dönemi

1. Aşağıdakilerden hangisi âlimlerin kelam ilmi için sıraladıkları gayelerden biri değildir?

- A) İnsanı taklidi imandan tahkiki imana ulaştırmak
B) İnananlara itikadî meseleleri delilleriyle öğretmek
C) İbadetlerin yapılış şekillerini ve hükümlerini tespit etmek
D) Müslümanları batıl görüş sahiplerinin ileri sürecekleri şüphelerden korumak

2. Aşağıdakilerden hangisi Kelam ilminin doğuş sebeplerinden biri değildir?

- A) Peygamberimizin vefatından sonra ortaya çıkan hilafet tartışmaları
B) Müslümanlar arasında iç savaşların ortaya çıkması
C) İslam'ın insanlara tanıdığı fikir ve vicdan hürriyeti
D) İslam düşüncesinin felsefe ilmine olan uzaklığı

3. "İşte Rabb'iniz Allah ki ondan başka ilah yoktur; O, her şeyin yaratandır. Ona kulluk edin, O her şeye vekildir." (En'âm suresi, 102. ayet)

Bu ayette aşağıdaki ilişkilerden hangisi söz konusudur?

- A) Allah - Âlem
B) Evren - İnsan
C) İnsan - İnsan
D) İnsan - Toplum

4. İslam düşüncesi ile ilgili aşağıdaki ifadelerden hangisi doğru değildir?

- A) Özgürlüğü ön plana çıkarır.
B) Güzel ahlaklı olmayı öğretir.
C) Zorlama yapılmasını kabul etmez.
D) Nasihat edilmesini tavsiye etmez.

5. Maturidi kelamcılar, insanın şuurlu olarak kendine doğru veya yanlış yolu seçtiğini ve Allah'ın insanın bu seçimine uygun olarak davrandığını ifade etmişlerdir.

Maturidiler bu görüşlerine dayanak olarak aşağıdaki ayetlerden hangisini göstermektedirler?

- A) "... İyi biliniz ki yaratmak ve emretmek yalnızca Allah'a mahsustur. Âlemlerin Rabb'i olan Allah yüceler yücesidir." (A'râf suresi, 54. ayet)
B) "İnsana gayretinden başka hiçbir şey yoktur ve gayretinin sonucunu da yakında görelecektir." (Necm suresi, 39-40. ayetler)
C) "Allah, inanıp iyi işler yapanları ödüllendirir. Onlar için büyük bir bağışlanma ve güzel bir rızık vardır." (Lokman suresi, 34. ayet)
D) "... Sen Allah'ın yasasında hiçbir değişiklik bulamazsın. Sen Allah'ın yasasında asla bir sapma da göremezsin." (Fâtır suresi, 43. ayet)

6. Kelamcılar bütün insanlarda ortak olan akli bilgileri aşağıdakilerden hangisi ile isimlendirmişlerdir?

- A) Kat'i B) Zannî
C) İlahi D) Bedihî

7. "Hakkında kesin bilgi sahibi olmadığın şeyin peşine düşme. Çünkü kulak, göz ve kalp, bunların hepsi ondan sorumludur." (İsrâ suresi, 36. ayet)

Bu ayette insanlar aşağıdakilerden hangisine karşı uyarılmıştır?

- A) Vahyi bilgi B) Bedihî bilgi
C) Zanni bilgi D) Kat'i bilgi

8. Aşağıdakilerden hangisi İslam düşüncesinde yorum farklılıklarının ortaya çıkış sebeplerinden biri değildir?

- A) Muhkem ayetler
B) Müteşabih ayetler
C) Ortam ve kültür
D) Siyasi hadiseler

1. OTURUM

9. “Şüphesiz, yeryüzünde yürüyen canlıların Allah katında en kötüsü, akıllarını kullanmayan (gerçeği görmeyen) sağırlar ve dilsizlerdir.” (Enfâl suresi, 22. ayet)

Bu ayette aşağıdakilerden hangisinin önemi dile getirilmiştir?

- A) Vahyin B) Aklın
C) Duyuların D) İlhamın

10. **Aşağıdakilerden hangisi Hariciliğin doğuşuna sebep olan faktörlerden biridir?**

- A) Bedevi hayattan yerleşik hayata geçişin getirdiği sorunlar.
B) Peygamberimizin ehl-i beytine duyulan sevgi
C) Hüküm vermede akli ön plana çıkarma isteği
D) Kureyş'in merkezi otoritesine destek verme

11. **Mutezile mezhebinin 'el-Va'd ve'l-Va'id' ilkesi aşağıdakilerden hangisi ile ilgilidir?**

- A) İyiliği emredip kötülüklerden sakındırma
B) Büyük günah işleyen kimse- nin ne Müslüman ne de kâfir olması
C) İnsanın dünyadaki davranış- larının karşılığını ahirette gör- mesi
D) İnsanın hür ve sorumlu bir varlık olduğunun açıkça belir- tilmesi

12. **Aşağıdakilerden hangisi Alevi - Bektaşî kültüründeki Dört Kapı'dan biri değildir?**

- A) Şeriat B) Tarikat
C) Marifet D) Şehadet

13. **Alevi-Bektaşî kültüründe “Müsahtiplik Cem'i” hangi anla- ma gelmektedir?**

- A) Ölen kimse için yedisi veya kırkında kurban kesilip lokma dağıtılmasıdır.
B) Yol kardeşi olmak isteyen iki ailenin kurban keserek kardeş- liğe söz vermeleridir.
C) Taliplerin bir yıl içerisinde de- deye verdikleri söze bağlılık- larının sorgulanmasıdır.
D) Kişinin işlediği suç nedeni ile tövbe edip kul hakkını iade etmesidir.

14. **Ameli, imanın bir parçası ola- rak gören mezhep aşağıdakiler- den hangisidir?**

- A) Maturidiye B) Mutezile
C) Mürcie D) Eş'ariye

15. **İmanda artma ve eksilme olma- dığını savunan mezhep aşağı- dakilerden hangisidir?**

- A) Maturidiye B) Mutezile
C) Mürcie D) Eş'ariye

16. Evrendeki var olan her şeyde bir eksiklik, bir zayıflık vardır. Bütün bu var olanlar, eksiklikle- rini tamamlama doğrultusunda, yani olgunluğa doğru hareket etmektedirler. Bu olgunluk ve yetkinlik özlemi, üstün bir varlığa ulaşma arzusu göstermektedir. Bizde mevcut olan bu Yüce Varlık düşüncesi, Allah'ın varlığına bir delildir.

Bu parçada Allah'ın varlığı ve birliğinin delillerinden hangisi söz konusudur?

- A) Hudus B) İmkân
C) Kemâl D) Temanu'

17. **Aşağıdakilerden hangisi Allah'ın zati sıfatlarından biri değildir?**

- A) Vücut B) Kıdem
C) Bekâ D) Hayat

18. Yüce Allah'ın sonsuz güç sahibi olmasıdır. O'nun kudretinin yet- meyeceği hiçbir şey yoktur. O sonsuz kudreti ile âlemde ada- letine uygun olarak tasarrufta bulunabilir.

Tanımı verilen Allah'ın subûti sı- fatı aşağıdakilerden hangisidir?

- A) Kudret B) Tekvin
C) İrade D) Kalam

19. **Allah'ın “Samed” isminin anla- mı aşağıdakilerden hangisidir?**

- A) Günahları yargılayan, örten ve çok mağfiret eden
B) Herkesin kendine muhtaç ol- duğu, kendisinin kimseye muh- taç olmadığı
C) Seven ve sevilen, iyiliği seven, iyilik edene ihsan eden, sevgi- ye layık olan
D) Hilm ile muamele eden, ceza- da acele etmeyen, yumuşak davranan

20. Allah zat ve sıfatı ile sonradan yaratılmış olan hiçbir şeye ben- zemez.

Bu tanım Allah'ın sıfatlarından hangisine aittir?

- A) Kıdem
B) Vahdaniyet
C) Kıyam binefsihi
D) Muhalefetü'n li'l-Havâdis

1. OTURUM

(931) SİYER – 1

1. İslam öncesi Arap Yarımadası'nda hâkim dini inanç aşağıdakilerden hangisidir?

- A) Haniflik B) Yahudilik
C) Hristiyanlık D) Putperestlik

2. Aşağıdaki âlimlerden hangisinin Hz. Peygamber'in hayatı ile ilgili yazılmış bir eseri yoktur?

- A) Muhammed Hamidullah
B) Muhammed Hamdi Yazır
C) Mehmet Asım Köksal
D) İbrahim Sarıçam

3. Aşağıdakilerden hangisi Hicaz Bölgesi şehirlerinden biri değildir?

- A) Mekke B) Medine
C) Basra D) Taif

4. Mekkeli müşriklerin İslam'ı kabul etmemelerinde aşağıdakilerden hangisi daha çok etkili olmuştur?

- A) Atalarının dinlerine olan bağlılıkları
B) İslam'ın ahiret inancına yer vermesi
C) İslam'ın kabilecilik anlayışını reddetmesi
D) Hz. Muhammed (sav.)'i peygamberliğe layık görmemeleri

5. Mekke döneminde Hz. Peygamberin baş muhalifleri aşağıdakilerden hangisidir?

- A) Mele üyeleri
B) Mevali
C) Fakirler
D) Köleler

6. Aşağıdaki surelerden hangisinde Mekkelilerin geçim kaynaklarından bahsedilmektedir?

- A) Mâ'ûn B) Kureyş
C) Kâfirûn D) Fatiha

7. Hacer-i Esvet ile ilgili aşağıdaki bilgilerden hangisi doğrudur?

- A) Kâbe'nin içinde bulunur.
B) Hz. Hacer'in makamıdır.
C) Vakfe yapılan mekândır.
D) Tavafın başlangıç noktasıdır.

8. Aşağıdakilerden hangisi Hz. Muhammed (sav.)'in atalarından biri değildir?

- A) Kusay B) Haşim
C) Huveylid D) Abdülmuttalip

9. Aşağıdakilerden hangisi Hz. Muhammed (sav.)'in sütkardeşleridir?

- A) Fatıma-Kasım
B) Şeyma-Abdullah
C) Zeynep-İbrahim
D) Rukiye-İbrahim

10. Aşağıdakilerden hangisi Hilfu'l-Fudul'un kuruluş amaçlarından biri değildir?

- A) Mekke'nin itibarını korumak
B) Ticari ortaklık oluşturmak
C) Mazlumlara yardım etmek
D) Haksızlığa engel olmak

11. Hz. Muhammed (sav.)'in kendisinden sonra vefat eden çocuğu hangisidir?

- A) Hz. Fatıma
B) Hz. İbrahim
C) Hz. Abdullah
D) Hz. Ümmü Gülsüm

12. Dârulerkam ile ilgili aşağıda verilen bilgilerden hangisi doğrudur?

- A) Müşriklerin toplandıkları mekânın adıdır.
B) Boykot döneminde Müslümanların sığındığı mahalledir.
C) Davet dönemi başlarında Müslümanların toplandığı evdir.
D) Habeşistan'a hicret eden Müslümanların yaşadığı bölgedir.

13. Mekkeli müşriklerin Hz. Peygamber'e yönelttikleri teklifler arasında aşağıdakilerden hangisi yoktur?

- A) Kendisini Mekke'ye lider yapmak
B) O'na maddi imkânlar sağlamak
C) Bir yıl putlara bir yıl da Allah'a ibadet etmek
D) İncancını serbestçe yaşamasına izin vermek

14. Mekkeli müşriklerin peygamberliğe Velid b. Muğire ya da Ebu Mesud'u layık görmelerinin sebebi aşağıdakilerden hangisidir?

- A) Zengin ve çok erkek çocuk sahibi olmaları
B) Yaşları itibarıyla daha uygun olmaları
C) Hicaz bölgesinde yaşıyor olmaları
D) Arapların tanıdığı kişiler olmaları

15. Habeşistan'ın hicret yeri olarak seçilmesinde aşağıdakilerden hangisinin etkisi olmamıştır?

- A) Hükümdarının adil oluşunun
B) Halkının Hristiyan olmasının
C) Müslümanların davet edilmesinin
D) Peygamber tarafından tavsiye edilmiş olmasının

16. Hz. Peygamber Akabe Görüşmesi'ni aşağıdakilerden hangisi ile yapmıştır?

- A) Taifli müşrikler
B) Medine'li Yahudiler
C) Mekkeli müşrikler
D) Medineli altı kişilik grup

17. Aşağıdakilerden hangisi Hz. Muhammed (sav.)'in Taif yolculuğunun amaçlarından biridir?

- A) Babasının mezarını ziyaret etmek
B) Mekke dışında da İslam'ı yaymak
C) Ticari ilişkileri geliştirmek
D) Bölge halkıyla tanışmak

1. OTURUM

(974) GİRİŞİMCİLİK – 1

18. Hz. Muhammed (sav.) Taif yolculuğu dönüşünde Mekke'ye kimin himayesinde girmiştir?

- A) Ebu Talib
- B) Hz. Hamza
- C) Hz. Ebu Bekir
- D) Mutim b. Adiy

19. "...Üzülme, çünkü Allah bizimdir..." (Tevbe suresi, 40.ayet) "İki yoldaş ki üçüncüsü Allah' tır, hiç endişe edilir mi?" (Hadis-i şerif)

Verilen ayet ve hadis aşağıdaki olaylardan hangisi ile ilgilidir?

- A) İsrâ ve Miraç
- B) Akabe Biatları
- C) Medine'ye hicret
- D) Habeşistan'a hicret

20. Hz. Muhammed (sav.)'e hicrette yardım eden kişiler ve hizmetleri eşleştirmelerinden hangisi yanlıştır?

- A) Hz. Abbas- Kılavuzluk
- B) Hz. Ali-Müşrikleri oyalama
- C) Hz. Ebu Bekir'in kölesi-Erzak temini
- D) Hz. Ebu Bekir'in oğlu- Bilgi toplama

1. Daha önceden üretilip, üretimde kullanılabilen ve tüm değerleri kapsayan üretim faktörü aşağıdakilerden hangisidir?

- A) Sermaye
- B) Emek
- C) Tabiat
- D) Müteşebbis

2. Aşağıda verilen etmenlerden hangisi bir işletmenin dış çevresinde yer alır?

- A) Üretim
- B) Personel
- C) İş gücü
- D) Finans

3. Bir tekstil fabrikasının pamuğun çok yetiştiği yerlerde kurulması, müteşebbisliğin bir ekonomik kaynak olduğunu gösteren aşağıdaki işlevlerden hangisine örnektir?

- A) İstihdam yaratır.
- B) Yer ve zaman faydası sağlar.
- C) Ürün kalitesini artırmaya çalışır.
- D) Üretimi organize eder ve yürütür.

4. Girişimcilerin işletme kurma sürecinde, aşağıdakilerden hangisi sürecin başlangıç aşamasında yapılması gereklidir?

- A) Fizibilite
- B) Ön Proje
- C) Deneme Üretimi
- D) Yatırım kararı verme

5. Bir işletmenin kuruluş sürecinde, projenin niteliğine göre kuruluş ve konum yeri durumu, fabrika binası, üretim teçhizatı, güvenlik araştırması, doğal afet ve çevre kirliliği gibi konularda yapılan araştırma türü aşağıdakilerden hangisidir?

- A) Ekonomik araştırma
- B) Yasal araştırma
- C) Mali araştırma
- D) Teknik araştırma

6. Aşağıdakilerden hangisi planlamada uyulacak kural olarak görülmez?

- A) Uygun bir süreyi kapsamalıdır.
- B) Kesin uygulanabilir olmalıdır.
- C) Basit ve anlaşılır olmalıdır.
- D) Dengeli olmalıdır.

7. Maslow'un ihtiyaçlar hiyerarşisine göre bir insanın "sevgi ve ait olma" ihtiyaçlarından sonra ortaya çıkacak ihtiyaçları aşağıdakilerden hangisidir?

- A) Saygı
- B) Güvenlik
- C) Başarma
- D) Fizyolojik

8. Üretim yönetimi dönüşüm sürecinde, aşağıdakilerden hangisi girdi olarak kabul edilmez?

- A) Emek
- B) Sermaye
- C) Hizmetler
- D) Girişimci

9. Aşağıdakilerden hangisi, bir ürünün yaşam eğrisi dönemine ait değildir?

- A) Gerileme
- B) Tanıma süreci
- C) Üretim süreci
- D) Doygunluk dönemi

10. "Kalem, kağıt, çivi, yağ" gibi üretim mallarının sınıflandırılması aşağıdakilerden hangisidir?

- A) Yardımcı araçlar
- B) İşletme gereçleri
- C) Yatırım donatım malları
- D) Üretim gereçleri ve parçaları

11. Planlama ile ilgili verilen açıklamalardan hangisi doğru değildir?

- A) Planlama akılcı bir yöntemdir.
- B) Planlama ile yüksek risk alınmış olunur.
- C) Planlama ileriye görerek önceden karar vermedir.
- D) Davranış biçimlerinin önceden tespit edilmesidir.

1. OTURUM

12. Tüm işletmelerde birimlerin çalışırken birbirleri ile uyumlu olması şartı, yönetimin temel işlevlerinden hangisi ile ilgilidir?

- A) Planlama
- B) Organizasyon
- C) Koordinasyon
- D) Sevk ve idare

13. Sosyal sorumluluk ile ilgili kalite belgesi aşağıdakilerden hangisidir?

- A) ISO 8000
- B) ISO 9000
- C) ISO 14000
- D) ISO 22000

14. Aşağıdakilerden hangisi kamu işletmelerinin kuruluş nedenleri arasında yer almaz?

- A) Mali nedenler
- B) Sosyal nedenler
- C) Ekonomik nedenler
- D) Yasal nedenler

15. Aşağıdakilerden hangisi, bir işletmenin şirket olabilmesi için uygun bir şart değildir?

- A) Ortak bir amaç olmalıdır.
- B) Ortaklar arası bir görüşme olmalıdır.
- C) Ortak üretim elemanlarına sahip olunmalı.
- D) Şirket kuranların sayısı birden çok olmalıdır.

16. Aşağıdaki açıklamalardan hangisi, Kamu İktisadi Teşebbüslerinin Özelliklerinden biri değildir?

- A) Sorumlulukları, tüm servetleri kadardır.
- B) Başbakanlık Denetleme Kurulunca denetlenir.
- C) Yüksek denetleme Kurulunca da denetlenebilir.
- D) KİT ürün fiyatları Bakanlar Kurulunca belirlenir.

17. Köprü, baraj,büyük santral projeleri için birden fazla işletmenin geçici olarak bir araya gelerek bu projeleri gerçekleştirmeleri, işletmelerin sınıflandırılması bakımından aşağıdakilerden hangisidir?

- A) Tröstler
- B) Holdingler
- C) Karteller
- D) Konsorsiyumlar

18. İşletme yöneticilerinin sözlü olarak ürettikleri bir yada bir kaç mali depo etme konusunda kurdukları birliklere ne ad verilmektedir?

- A) Merger
- B) Füzyon
- C) Kornerler
- D) Konsernler

19. Aşağıdaki açıklamalardan hangisi, satışın temel ilkelerinden biri değildir?

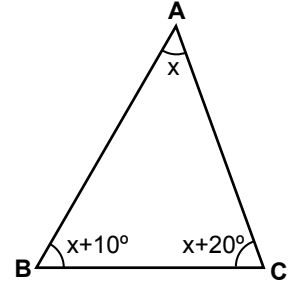
- A) Satış, satıcıya göre düzenlenmelidir.
- B) Pazar ve rakiplerin şartları bilinmelidir.
- C) Satış için gereken tüm çabalar sarfedilmelidir.
- D) Pazarlama elemanlarına uygun şartlar yaratılmalıdır.

20. "Açık hava reklamı" aşağıdaki reklam çeşitlerinden hangisi ile ilgilidir?

- A) Coğrafi açıdan
- B) Yapanlar açısından
- C) Reklam içeriği açısından
- D) Kullanılan araç açısından

(999) MATEMATİK – 2

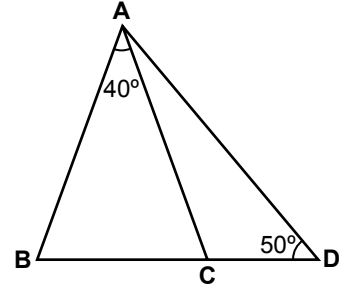
1.



Şekildeki ABC üçgeninde $m(\widehat{BAC}) = x$, $m(\widehat{ABC}) = x + 10^\circ$ ve $m(\widehat{ACB}) = x + 20^\circ$ olduğuna göre $m(\widehat{ACB})$ kaç derecedir?

- A) 40
- B) 60
- C) 70
- D) 80

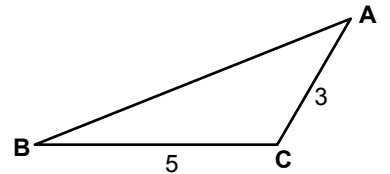
2.



Şekildeki ABD üçgeninde $|AB| = |AC|$, $m(\widehat{BAC}) = 40^\circ$ ve $m(\widehat{ADB}) = 50^\circ$ olduğuna göre $m(\widehat{CAD})$ kaç derecedir?

- A) 20
- B) 25
- C) 30
- D) 35

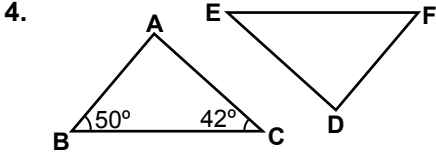
3.



Şekildeki ABC üçgeninde $|AC| = 3 \text{ cm}$, $|BC| = 5 \text{ cm}$ olduğuna göre $|AB|$ 'nin alabileceği en büyük tam sayı değeri kaç santimetredir?

- A) 8
- B) 7
- C) 6
- D) 5

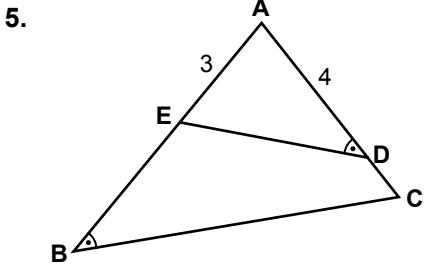
1. OTURUM



Şekilde $\widehat{ABC} \cong \widehat{DFE}$ 'tir.

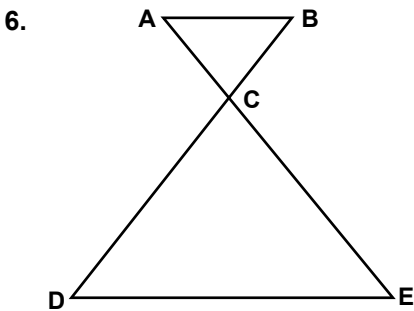
$m(\widehat{ABC}) = 50^\circ$ ve $m(\widehat{BCA}) = 42^\circ$ olduğuna göre $m(\widehat{EDF})$ kaç derecedir?

- A) 88 B) 86 C) 84 D) 82



Şekilde $m(\widehat{EDA}) = m(\widehat{ABC})$, $|AB| = 7$ cm, $|AE| = 3$ cm ve $|AD| = 4$ cm olduğuna göre $|AC|$ kaç santimetredir?

- A) $\frac{12}{7}$ B) $\frac{21}{4}$
C) 6 D) 8

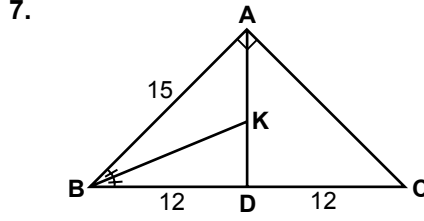


Şekilde $[AB] \parallel [DE]$ ve $[AE] \cap [BD] = \{C\}$ 'tir.

$\frac{|AC|}{|CE|} = \frac{2}{5}$ ve $|AB| = 5$ cm

olduğuna göre $|DE|$ kaç santimetredir?

- A) 2 B) $\frac{12}{5}$ C) 10 D) $\frac{25}{2}$



Şekildeki ABC üçgeninde

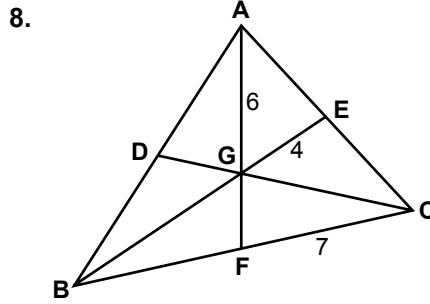
$[AB] \perp [AC]$ 'tir.

$m(\widehat{CBK}) = m(\widehat{KBA})$,

$|AB| = 15$ cm ve

$|BD| = |DC| = 12$ cm olduğuna göre $|KD|$ kaç santimetredir?

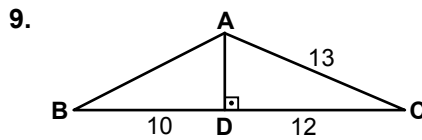
- A) $\frac{14}{3}$ B) 5 C) $\frac{16}{3}$ D) 6



Şekildeki ABC üçgeninde $[AF]$, $[BE]$ ve $[CD]$ kenarortaylarının kesim noktası G'dir.

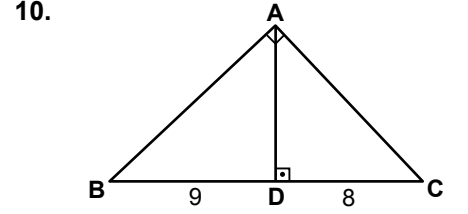
$|AG| = 6$ cm, $|GE| = 4$ cm ve $|FC| = 7$ cm olduğuna göre BFG üçgeninin çevresi kaç santimetredir?

- A) 16 B) 17 C) 18 D) 19



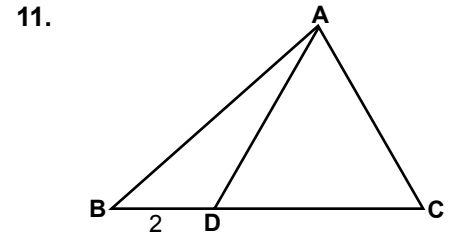
Şekildeki ABC üçgeninde $[AD] \perp [BC]$ 'tir. $|BD| = 10$ cm, $|DC| = 12$ cm ve $|AC| = 13$ cm olduğuna göre $|AB|$ kaç santimetredir?

- A) $4\sqrt{5}$ B) 10
C) 11 D) $5\sqrt{5}$



Şekildeki ABC üçgeninde $[AB] \perp [AC]$ ve $[AD] \perp [BC]$ 'tir. $|BD| = 9$ cm ve $|DC| = 8$ cm olduğuna göre $|AD|$ kaç santimetredir?

- A) 17 B) $8\sqrt{2}$
C) $6\sqrt{2}$ D) 6



Şekildeki ADC üçgeni eşkenar üçgendir. $|BD| = 2$ cm ve $|BC| = 6$ cm olduğuna göre $|AB|$ kaç santimetredir?

- A) $\sqrt{7}$ B) $2\sqrt{7}$
C) $4\sqrt{2}$ D) $\sqrt{35}$

12. $\cos 320^\circ$, $\sin 190^\circ$, $\cot 200^\circ$ ve $\tan 140^\circ$ değerlerinin işaretleri sırasıyla aşağıdakilerden hangisinde verilmiştir?

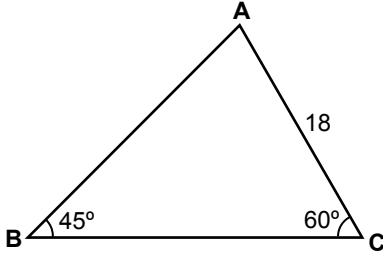
- A) +, +, -, - B) -, +, -, +
C) +, -, +, - D) -, -, +, +

13. $\sin 150^\circ + \tan 45^\circ$ kaçtır?

- A) $\frac{1}{2}$ B) $\frac{3}{2}$
C) $\frac{\sqrt{3}+2}{2}$ D) $\frac{\sqrt{3}-2}{2}$

1. OTURUM

14.



Şekildeki ABC üçgeninde $m(\widehat{ABC}) = 45^\circ$, $m(\widehat{ACB}) = 60^\circ$ ve $|AC| = 18$ cm olduğuna göre $|AB|$ kaç santimetredir?

- A) $9\sqrt{6}$ B) $9\sqrt{3}$
C) $9\sqrt{2}$ D) 9

15. Bir ABC üçgeninde

$|AB| = 6$ cm, $|BC| = 8$ cm ve $|AC| = 10$ cm olduğuna göre $A(\widehat{ABC})$ kaç santimetrekaredir?

- A) 24 B) 20 C) 12 D) 10

16. K, L, N, P, R noktaları aynı

düzlemde bulunan farklı noktalardır. Buna göre, $\vec{KL} + \vec{LN} + \vec{NR} + \vec{RP}$ aşağıdaki vektörlerden hangisine eşittir?

- A) \vec{KR} B) \vec{KP} C) \vec{KN} D) \vec{KL}

17. M(-7) ve N(4) noktaları veriliyor. Buna göre $|\vec{MN}|$ kaç birimdir?

- A) 3 B) 6 C) 8 D) 11

18. 5, 6, 6, 2, 7, 3, 3, 9, 10 veri grubunun ortanca değeri kaçtır?

- A) 7 B) 6,5 C) 6 D) 5,5

19. Dört sayının aritmetik ortalaması 15'tir. Bu sayılardan üçünün aritmetik ortalaması 12 olduğuna göre dördüncü sayı kaçtır?

- A) 18 B) 20 C) 22 D) 24

20. Bir otobüste 10 erkek, 16 kadın yolcu vardır. Erkeklerin 4'ü, kadınların 8'i gözlüklüdür. Buna göre otobüsten inen bir yolcunun gözlüklü veya kadın olma olasılığı nedir?

- A) $\frac{10}{13}$ B) $\frac{15}{26}$ C) $\frac{5}{13}$ D) $\frac{5}{26}$

TEST BİTTİ.
CEVAPLARINIZI KONTROL EDİNİZ.

SINAV SÜRESİNCE UYULACAK KURALLAR

1. Adaylar, sınav kurallarına ve salon görevlilerinin tüm uyarılarına uymak zorundadırlar. Kurallara ve uyarılara uymayan adayların sınavları geçersiz sayılacaktır.
2. Sınav başladıktan sonra adayların salon görevlileri ve birbirleri ile konuşmaları, kalem, silgi vb. şeyleri istemeleri yasaktır.
3. Adaylar sınav süresince, sınav giriş belgesi ile birlikte kimlik belgelerinden birini (nüfus cüzdanı, pasaport veya sürücü belgesi) masalarının üzerinde bulundurmamak zorundadırlar.

SALON GÖREVLİLERİNCE SINAV BAŞLAMADAN ÖNCE ADAYLARA YAPILACAK SON UYARI

- Soracağınız bir şey var mı? Varsa şimdi sorunuz.
- Sınav başladıktan sonra sorularınıza cevap verilmeyecektir.
- Başlama zilini bekleyiniz.
- Hepinize başarılar dileriz.

(Salon başkanı başlama ve bitiş saatini tahtaya yazacaktır.)

Bu kitapçığın her hakkı saklıdır. Hangi amaçla olursa olsun, kitapçığın tamamının veya bir kısmının Millî Eğitim Bakanlığı Ölçme, Değerlendirme ve Sınav Hizmetleri Genel Müdürlüğünün yazılı izni olmadan kopya edilmesi, fotoğraflarının çekilmesi, bilgisayar ortamına alınması, herhangi bir yolla çoğaltılması, yayımlanması veya başka bir amaçla kullanılması yasaktır. Bu yasağa uymayanlar, doğabilecek cezai sorumluluğu ve kitapçığın hazırlanmasındaki mali külfeti peşinen kabullenmiş sayılır.

19 MART 2016 TARİHİNDE YAPILAN AÇIKÖĞRETİM LİSESİ / MESLEKİ AÇIKÖĞRETİM LİSESİ
2015-2016 ÖĞRETİM YILI 2. DÖNEM SINAVI 1. OTURUM T KİTAPÇIĞI CEVAP ANAHTARI

DİN KÜL. AHL. BİL. – 1

1. D
2. C
3. B
4. C
5. A
6. B
7. D
8. A
9. B
10. A
11. C
12. C
13. B
14. D
15. B
16. C
17. D
18. A
19. C
20. D

DİN KÜL. AHL. BİL. – 5

1. B
2. A
3. D
4. C
5. A
6. D
7. A
8. C
9. C
10. D
11. B
12. B
13. D
14. A
15. B
16. D
17. C
18. C
19. B
20. C

SEÇMELİ FELSEFE – 1

1. D
2. B
3. A
4. C
5. A
6. C
7. D
8. A
9. B
10. C
11. B
12. C
13. A
14. C
15. D
16. B
17. D
18. B
19. D
20. A

TARİH – 6

1. A
2. B
3. D
4. C
5. B
6. A
7. D
8. B
9. B
10. C
11. D
12. A
13. D
14. A
15. C
16. D
17. A
18. C
19. D
20. B

DİN KÜL. AHL. BİL. – 2

1. D
2. A
3. D
4. C
5. B
6. C
7. D
8. B
9. D
10. C
11. A
12. C
13. A
14. D
15. A
16. D
17. A
18. D
19. C
20. B

FELSEFE – 1

1. C
2. D
3. A
4. C
5. A
6. B
7. B
8. C
9. D
10. C
11. D
12. A
13. B
14. C
15. A
16. D
17. A
18. B
19. D
20. B

TARİH – 2

1. C
2. A
3. A
4. B
5. D
6. A
7. D
8. B
9. A
10. C
11. D
12. A
13. B
14. C
15. C
16. D
17. B
18. A
19. B
20. D

COĞRAFYA – 1

1. B
2. A
3. C
4. B
5. D
6. A
7. A
8. C
9. D
10. B
11. D
12. D
13. C
14. D
15. A
16. D
17. B
18. C
19. A
20. C

19 MART 2016 TARİHİNDE YAPILAN AÇIKÖĞRETİM LİSESİ / MESLEKİ AÇIKÖĞRETİM LİSESİ
2015-2016 ÖĞRETİM YILI 2. DÖNEM SINAVI 1. OTURUM T KİTAPÇIĞI CEVAP ANAHTARI

COĞRAFYA – 5

1. D
2. A
3. B
4. B
5. A
6. D
7. A
8. C
9. B
10. A
11. C
12. A
13. D
14. D
15. B
16. C
17. D
18. C
19. C
20. A

İNGİLİZCE – 1

1. C
2. D
3. A
4. C
5. A
6. C
7. B
8. A
9. C
10. B
11. D
12. D
13. A
14. D
15. C
16. B
17. A
18. D
19. B
20. A

FRANSIZCA – 1

1. D
2. A
3. B
4. C
5. B
6. C
7. D
8. A
9. C
10. D
11. A
12. B
13. A
14. C
15. D
16. B
17. C
18. B
19. A
20. D

ALMANCA – 5

1. A
2. D
3. B
4. A
5. C
6. A
7. B
8. C
9. C
10. B
11. D
12. D
13. A
14. B
15. D
16. B
17. D
18. A
19. C
20. C

COĞRAFYA – 7

1. C
2. A
3. A
4. D
5. B
6. C
7. A
8. A
9. D
10. B
11. C
12. C
13. A
14. D
15. B
16. B
17. D
18. C
19. D
20. C

ALMANCA – 1

1. C
2. A
3. D
4. A
5. B
6. C
7. D
8. D
9. C
10. B
11. A
12. C
13. D
14. A
15. B
16. A
17. D
18. A
19. C
20. B

İNGİLİZCE – 5

1. D
2. A
3. D
4. C
5. B
6. D
7. A
8. C
9. A
10. D
11. B
12. A
13. C
14. B
15. B
16. C
17. D
18. C
19. A
20. D

FRANSIZCA – 5

1. C
2. B
3. A
4. D
5. D
6. B
7. A
8. D
9. B
10. C
11. B
12. A
13. C
14. D
15. A
16. C
17. B
18. B
19. A
20. D

19 MART 2016 TARİHİNDE YAPILAN AÇIKÖĞRETİM LİSESİ / MESLEKİ AÇIKÖĞRETİM LİSESİ
2015-2016 ÖĞRETİM YILI 2. DÖNEM SINAVI 1. OTURUM T KİTAPÇIĞI CEVAP ANAHTARI

DİL ve ANLATIM – 1

1. C
2. D
3. D
4. A
5. B
6. A
7. D
8. B
9. C
10. B
11. A
12. B
13. B
14. D
15. C
16. A
17. D
18. C
19. C
20. B

DİL ve ANLATIM – 7

1. C
2. A
3. B
4. C
5. D
6. D
7. B
8. C
9. B
10. D
11. A
12. B
13. A
14. C
15. D
16. B
17. D
18. B
19. A
20. C

TÜRK EDEBİYATI – 4

1. A
2. B
3. D
4. C
5. D
6. B
7. A
8. C
9. A
10. D
11. A
12. D
13. C
14. A
15. B
16. A
17. C
18. A
19. C
20. D

TÜRK EDEBİYATI – 8

1. B
2. A
3. C
4. D
5. C
6. A
7. B
8. D
9. D
10. B
11. C
12. A
13. D
14. A
15. C
16. B
17. D
18. B
19. A
20. C

DİL ve ANLATIM – 2

1. D
2. C
3. A
4. B
5. A
6. C
7. D
8. A
9. C
10. C
11. B
12. D
13. D
14. C
15. B
16. A
17. A
18. B
19. B
20. C

DİL ve ANLATIM – 8

1. D
2. C
3. C
4. B
5. C
6. B
7. D
8. D
9. C
10. B
11. D
12. A
13. D
14. B
15. C
16. A
17. B
18. D
19. C
20. A

TÜRK EDEBİYATI – 7

1. A
2. B
3. C
4. C
5. B
6. A
7. A
8. C
9. B
10. D
11. D
12. C
13. D
14. A
15. B
16. C
17. D
18. A
19. C
20. A

FİZİK – 1

1. C
2. D
3. C
4. B
5. D
6. A
7. C
8. A
9. B
10. B
11. A
12. D
13. B
14. A
15. B
16. B
17. C
18. C
19. D
20. A

19 MART 2016 TARİHİNDE YAPILAN AÇIKÖĞRETİM LİSESİ / MESLEKİ AÇIKÖĞRETİM LİSESİ
2015-2016 ÖĞRETİM YILI 2. DÖNEM SINAVI 1. OTURUM T KİTAPÇIĞI CEVAP ANAHTARI

FİZİK – 5

1. A
2. B
3. D
4. C
5. A
6. D
7. B
8. A
9. C
10. A
11. C
12. C
13. A
14. D
15. B
16. B
17. C
18. C
19. A
20. D

KİMYA – 6

1. A
2. C
3. D
4. C
5. D
6. B
7. B
8. B
9. A
10. D
11. A
12. C
13. B
14. A
15. C
16. D
17. C
18. A
19. D
20. B

BİYOLOJİ – 3

1. A
2. C
3. D
4. B
5. C
6. A
7. D
8. A
9. B
10. D
11. A
12. C
13. A
14. C
15. B
16. A
17. C
18. D
19. B
20. D

EKONOMİ. – 1

1. B
2. D
3. C
4. A
5. B
6. D
7. C
8. A
9. B
10. C
11. C
12. D
13. C
14. B
15. A
16. D
17. A
18. B
19. A
20. C

KİMYA – 2

1. A
2. C
3. B
4. D
5. C
6. D
7. B
8. A
9. B
10. C
11. A
12. D
13. A
14. B
15. C
16. D
17. B
18. A
19. C
20. D

BİYOLOJİ – 1

1. B
2. A
3. C
4. D
5. D
6. A
7. C
8. B
9. A
10. C
11. A
12. D
13. C
14. B
15. D
16. B
17. A
18. A
19. D
20. C

BİYOLOJİ – 6

1. D
2. A
3. C
4. A
5. A
6. C
7. D
8. B
9. A
10. D
11. C
12. C
13. A
14. B
15. A
16. D
17. C
18. B
19. B
20. D

TEMEL DİNİ BİL.– 1

1. A
2. C
3. B
4. D
5. B
6. C
7. D
8. B
9. C
10. B
11. C
12. A
13. A
14. B
15. D
16. B
17. D
18. C
19. A
20. D

19 MART 2016 TARİHİNDE YAPILAN AÇIKÖĞRETİM LİSESİ / MESLEKİ AÇIKÖĞRETİM LİSESİ
2015-2016 ÖĞRETİM YILI 2. DÖNEM SINAVI 1. OTURUM T KİTAPÇIĞI CEVAP ANAHTARI

İŞLETME – 2

1. B
2. D
3. C
4. A
5. A
6. C
7. D
8. B
9. A
10. C
11. D
12. B
13. A
14. C
15. D
16. C
17. A
18. B
19. D
20. B

SAĞLIK BİLGİSİ – 2

1. D
2. A
3. C
4. B
5. C
6. D
7. A
8. D
9. C
10. B
11. C
12. A
13. D
14. B
15. C
16. B
17. A
18. B
19. D
20. C

İNGİLİZCE – 8

1. D
2. B
3. A
4. D
5. A
6. D
7. C
8. B
9. D
10. A
11. D
12. B
13. B
14. C
15. A
16. C
17. C
18. A
19. B
20. A

FRANSIZCA – 8

1. A
2. C
3. D
4. B
5. C
6. A
7. D
8. B
9. D
10. B
11. C
12. A
13. A
14. A
15. C
16. D
17. D
18. A
19. C
20. B

MANTIK – 2

1. D
2. A
3. C
4. B
5. A
6. C
7. B
8. D
9. B
10. C
11. B
12. A
13. D
14. C
15. A
16. D
17. C
18. B
19. A
20. D

TRAF. VE İLK YARD. – 1

1. C
2. B
3. D
4. A
5. B
6. C
7. C
8. D
9. A
10. C
11. D
12. D
13. B
14. A
15. D
16. A
17. C
18. B
19. D
20. A

ALMANCA – 8

1. C
2. D
3. B
4. D
5. A
6. D
7. C
8. A
9. B
10. D
11. B
12. C
13. A
14. D
15. C
16. A
17. B
18. C
19. B
20. A

FIKİH – 1

1. B
2. A
3. B
4. D
5. A
6. D
7. A
8. C
9. A
10. C
11. B
12. A
13. C
14. A
15. B
16. D
17. D
18. C
19. D
20. C

19 MART 2016 TARİHİNDE YAPILAN AÇIKÖĞRETİM LİSESİ / MESLEKİ AÇIKÖĞRETİM LİSESİ
2015-2016 ÖĞRETİM YILI 2. DÖNEM SINAVI 1. OTURUM T KİTAPÇIĞI CEVAP ANAHTARI

HZ. MUHAMMED'İN HAY. – 2

1. D
2. A
3. C
4. C
5. B
6. A
7. B
8. A
9. D
10. C
11. D
12. A
13. C
14. B
15. A
16. A
17. B
18. C
19. B
20. D

KARŞ. DİN. TARİHİ – 1

1. B
2. B
3. C
4. A
5. C
6. D
7. B
8. C
9. A
10. D
11. B
12. C
13. A
14. D
15. D
16. A
17. B
18. C
19. B
20. D

SEÇ. DİL ve ANLA. – 8

1. B
2. B
3. D
4. C
5. A
6. B
7. C
8. B
9. B
10. C
11. D
12. A
13. A
14. D
15. C
16. C
17. A
18. D
19. C
20. A

SEÇ. TÜRK ED. –7

1. D
2. B
3. C
4. B
5. D
6. A
7. B
8. B
9. C
10. D
11. A
12. D
13. C
14. D
15. A
16. D
17. A
18. C
19. C
20. B

MATEMATİK – 6

1. B
2. D
3. C
4. A
5. B
6. D
7. C
8. B
9. C
10. A
11. D
12. C
13. A
14. C
15. C
16. D
17. A
18. D
19. A
20. B

SEÇ. DİL ve ANLA. – 7

1. D
2. C
3. A
4. B
5. A
6. A
7. D
8. C
9. A
10. D
11. A
12. C
13. B
14. D
15. C
16. D
17. D
18. B
19. A
20. B

SEÇ. TÜRK ED. – 4

1. B
2. C
3. D
4. B
5. B
6. C
7. A
8. D
9. B
10. D
11. C
12. A
13. C
14. D
15. C
16. D
17. A
18. B
19. A
20. D

SEÇ. TÜRK ED. –8

1. C
2. B
3. A
4. A
5. D
6. A
7. D
8. A
9. D
10. D
11. B
12. C
13. C
14. A
15. C
16. C
17. B
18. B
19. A
20. B

19 MART 2016 TARİHİNDE YAPILAN AÇIKÖĞRETİM LİSESİ / MESLEKİ AÇIKÖĞRETİM LİSESİ
2015-2016 ÖĞRETİM YILI 2. DÖNEM SINAVI 1. OTURUM T KİTAPÇIĞI CEVAP ANAHTARI

İSLAM TARİHİ – 1

1. B
2. C
3. D
4. A
5. D
6. B
7. C
8. D
9. C
10. B
11. A
12. A
13. D
14. C
15. C
16. A
17. B
18. D
19. B
20. A

SİYER – 1

1. D
2. B
3. C
4. A
5. A
6. B
7. D
8. C
9. B
10. B
11. A
12. C
13. D
14. A
15. C
16. D
17. B
18. D
19. C
20. A

MATEMATİK – 2

1. C
2. A
3. B
4. A
5. B
6. D
7. C
8. C
9. D
10. C
11. B
12. C
13. B
14. A
15. A
16. B
17. D
18. C
19. D
20. A

KELAM – 1

1. C
2. D
3. A
4. D
5. B
6. D
7. C
8. A
9. B
10. A
11. C
12. D
13. B
14. B
15. A
16. C
17. D
18. A
19. B
20. D

GİRİŞİMCİLİK – 1

1. A
2. C
3. B
4. A
5. D
6. B
7. A
8. C
9. C
10. B
11. B
12. C
13. A
14. D
15. B
16. A
17. D
18. C
19. A
20. D