

OTURUM

3



T.C.
MİLLÎ EĞİTİM BAKANLIĞI
ÖLÇME, DEĞERLENDİRME VE SINAV HİZMETLERİ
GENEL MÜDÜRLÜĞÜ

T

AÇIK ÖĞRETİM LİSESİ / MESLEKİ AÇIK ÖĞRETİM LİSESİ
2015-2016 ÖĞRETİM YILI 2. DÖNEM SINAVI
3. OTURUM: 20 MART 2016 Saat: 09.30

| <u>DERS KODU VE ADI</u> | <u>SAYFA</u> | <u>DERS KODU VE ADI</u> | <u>SAYFA</u> | <u>DERS KODU VE ADI</u> | <u>SAYFA</u> |
|-------------------------------|--------------|-------------------------------|--------------|--------------------------------|--------------|
| (113) DİN KÜL. AHL. BİL. – 3 | 2 | (242) FRANSIZCA – 3 | 24 | (478) MANTIK – 1 | 48 |
| (114) DİN KÜL. AHL. BİL. – 4 | 3 | (403) DİL VE ANLATIM – 3 | 25 | (500) İNGİLİZCE – 6 | 49 |
| (116) DİN KÜL. AHL. BİL. – 6 | 4 | (405) DİL VE ANLATIM – 5 | 26 | (500) ALMANCA – 6 | 50 |
| (122) FELSEFE – 2 | 5 | (406) DİL VE ANLATIM – 6 | 28 | (500) FRANSIZCA – 6 | 51 |
| (124) SEÇMELİ FELSEFE – 2 | 7 | (413) TÜRK EDEBİYATI – 3 | 30 | (503) SEÇMELİ TARİH – 3 | 52 |
| (133) TARİH – 3 | 8 | (416) TÜRK EDEBİYATI – 6 | 31 | (504) SEÇMELİ TARİH – 4 | 53 |
| (134) TARİH – 4 | 9 | (426) FİZİK – 6 | 33 | (505) SEÇMELİ COĞRAFYA – 3 | 54 |
| (142) T.C. İNK. TAR. ATA. – 2 | 10 | (427) FİZİK – 7 | 34 | (506) SEÇMELİ COĞRAFYA – 4 | 56 |
| (153) COĞRAFYA – 3 | 11 | (428) FİZİK – 8 | 36 | (533) HZ. MUHAMMED'İN HAY. – 3 | 57 |
| (154) COĞRAFYA – 4 | 13 | (433) KİMYA – 3 | 37 | (534) HZ. MUHAMMED'İN HAY. – 4 | 59 |
| (158) COĞRAFYA – 8 | 15 | (434) KİMYA – 4 | 39 | (608) DEM. VE İNSAN HAK. – 2 | 60 |
| (163) MATEMATİK – 3 | 17 | (435) KİMYA – 5 | 40 | (613) SEÇ. DİL VE ANLA. – 3 | 62 |
| (165) MATEMATİK – 5 | 18 | (445) BİYOLOJİ – 5 | 41 | (615) SEÇ. DİL VE ANLA. – 5 | 63 |
| (206) PSİKOLOJİ – 1 | 19 | (448) BİYOLOJİ – 8 | 42 | (616) SEÇ. DİL VE ANLA. – 6 | 65 |
| (209) SOSYOLOJİ – 2 | 21 | (452) ÇAĞ. TÜRK DÜN. TAR. – 2 | 44 | (623) SEÇ. TÜRK ED. – 3 | 67 |
| (242) İNGİLİZCE – 3 | 22 | (462) EKONOMİ – 2 | 45 | (626) SEÇ. TÜRK ED. – 6 | 68 |
| (242) ALMANCA – 3 | 23 | (468) MATEMATİK – 8 | 46 | (975) GİRİŞİMCİLİK – 2 | 70 |

ADAYLARIN DİKKATİNE!

- Her ders için **20** soru bulunmaktadır. Bu oturumda **180** dakikalık cevaplama süreniz vardır. Sınav başladıktan sonra ilk **30** dakika dolmadan dışarı çıkmayınız.
- Sınav sırasında sözlük, hesap cetveli veya makinesi, çağrı cihazı, cep telefonu, telsiz, radyo gibi elektronik iletişim araçlarını yanınızda bulundurmuyunuz. Bu araçları kullanmanız ve kopya çekmeye teşebbüs etmeniz hâlinde sınavınız geçersiz sayılacaktır.
- Başvuru şartlarını taşımadığınız hâlde sınava girmeniz, kopya çekmeniz, başka adayın sınav evrakını kullanmanız, geçerli kimlik belgenizi ve sınav giriş belgenizi ibraz edemediğiniz durumlarda sınavınız geçersiz sayılacaktır.
- Sınavın değerlendirilmesi aşamasında, kopya tespiti hâlinde sınavınız geçersiz sayılacaktır.

CEVAP KÂĞIDI VE SORU KİTAPÇIĞI İLE İLGİLİ AÇIKLAMALAR

- Cevap kâğıdınızdaki bilgilerin doğruluğunu kontrol ediniz ve cevap kâğıdınızı mürekkepli kalemle imzalayınız.
- Cevap kâğıdı üzerinde kodlamalarınızı kurşun kalemle yapınız.
- Değiştirmek istediğiniz bir cevabı, yumuşak silgiyle cevap kâğıdını örselemeden temizce siliniz ve yeni cevabınızı kodlayınız.
- Soru kitapçığının sayfalarını kontrol ediniz, baskı hatası var ise değiştirilmesini sağlayınız.
- Soruların çözümü için size ayrıca boş kâğıt verilmeyecektir. Soru kitapçığının içindeki boş alanları soru çözümleri için kullanabilirsiniz.
- Her sorunun dört seçeneğinden sadece biri doğrudur. Doğru seçeneği, cevap kâğıdınızın ilgili sütununa soru numarasını dikkate alarak yuvarlağın dışına taşırmadan kodlayınız. **Soru kitapçığı üzerinde yapılan cevaplandırmalar dikkate alınmayacaktır.**
- Cevaplamaya istediğiniz dersin sorusundan başlayabilirsiniz. Cevabını bilmediğiniz sorular üzerinde fazla zaman kaybetmeden diğer sorulara geçiniz. Zamanınız kalırsa bu sorulara daha sonra dönebilirsiniz.
- Yanlış cevaplarınız dikkate alınmadan sadece doğru cevaplarınız üzerinden puanlama yapılacaktır.
- Soruları ve sorulara verdiğiniz cevapları, yanınızda götürmek amacıyla kaydetmeyiniz; hiçbir şekilde dışarı çıkarmayınız.
- Sınav bitiminde, soru kitapçığı ve cevap kâğıdını salon görevlilerine teslim ediniz.**

BAŞLAYINIZ DENİLMEDEN SORU KİTAPÇIĞINI AÇMAYINIZ.

3. OTURUM

(113) DİN KÜL. AHL. BİL. – 3

1. "... Allah dilediğini yaratır. Bir işe hükmedince ona sadece 'Ol' der oda oluverir."
(Âl-i İmrân suresi, 47. ayet)

Yukarıdaki ayet Allah'ın hangi sıfatının bir delilidir?

- A) Basar B) Kıdem
C) Tekvin D) Bekâ

2. "Her şey kendisine muhtaç olduğu halde kendisi hiçbir şeye muhtaç olmayan" **anlamına gelen Allah'ın ismi aşağıdakilerden hangisidir?**

- A) Kayyûm B) Samed
C) Hay D) Âlim

3. **Aşağıdakilerden hangisi duaya bir örnek değildir?**

- A) "Şayet kulak vermiş ve aklımızı kullanmış olsaydık, (şimdi) şu alevli cehennemde olamazdık." (Mülk suresi, 10. ayet)
B) "...Rabbimiz! Bize dünyada da iyilik ver, ahirette de iyilik ver. Bizi ateşin azabından koru."
(Bakara suresi, 201. ayet)
C) Allah'ım Sen affedicisin, affetmeyi seversin. Beni de affet. (Hadis)
D) Allah'ım! Senden faydalı bilgi, temiz rızık ve kabul edilmiş bir ibadet dilerim. (Hadis)

4. **İbadetler ile ilgili aşağıda verilen bilgilerden hangisi yanlıştır?**

- A) Samimi ve içten yapılmalıdır.
B) Yalnızca Allah için yapılmalıdır.
C) Riya ve gösterişten uzak olmalıdır.
D) Sadece ihtiyaç duyulduğunda yapılmalıdır.

5. **Aşağıdakilerden hangisi tövbenin şartlarından biri değildir?**

- A) Yaptığı günahlardan pişmanlık duymak
B) Bir daha günah işlememeye karar vermek
C) İşlemiş olduğu günahları bir daha yapmamak
D) Tövbeyi bir din adamının gözetiminde yapmak

6. **Hz. Peygamber ile ilgili aşağıda verilen bilgilerden hangisi yanlıştır?**

- A) En büyük mucizesi Kur'an'dır.
B) Kur'an-ı Kerim-i ilk açıklayan insandır.
C) Medine'de doğup Mekke'de vefat etmiştir.
D) Bütün insanlığa gönderilmiş rahmet peygamberidir.

7. **Aşağıdakilerden hangisi imanın şartlarından biridir?**

- A) Meleklerle inanmak
B) Namaz kılmak
C) Oruç tutmak
D) Zekât vermek

8. **Aşağıdakilerden hangisi Kur'an'ın temel amaçlarından biri değildir?**

- A) İnsanları doğru davranışa yönlendirmek
B) Bilimsel konularda insanlara bilgi vermek
C) Kişiyi batıl inanç ve hurafelerden uzak tutmak
D) İnsanların dünya ve ahiret mutluluğunu sağlamak

9. "...Şüphesiz namaz, müminler üzerine belirli vakitlerde farz kılınmıştır." (Nisa suresi, 103. ayet)

Bu ayette namaz ile ilgili aşağıdakilerden hangisine değinilmemiştir?

- A) Müslümanların kılması gerektiğine
B) Nasıl kılınması gerektiğine
C) Zamanla sınırlı olduğuna
D) Allah'ın emri olduğuna

10. **Aşağıdaki namazların hangisinde rükû ve secde yapılmaz?**

- A) Vitir namazı
B) Bayram namazı
C) Cuma namazı
D) Cenaze namazı

11. **Aşağıdakilerden hangisi namaza hazırlık şartlarından biridir?**

- A) İftitah tekbiri B) Setr-i avret
C) Kıyam D) Kâde-i ahire

12. **Aşağıdaki günlerin hangisinde oruç tutulabilir?**

- A) Kurban Bayramının birinci günü
B) Kurban Bayramının ikinci günü
C) Ramazan Bayramının birinci günü
D) Ramazan Bayramının ikinci günü

13. **Aşağıdakilerden hangisi oruçlarını kazaya bırakma ruhsatına sahip değildir?**

- A) Hastalar B) Yolcular
C) Çiftçiler D) Emzikli kadınlar

14. **Orucunu mazeretsiz olarak bozanların cezası aşağıdakilerden hangisidir?**

- A) Bozduğu her oruç için on fakiri giydirmek.
B) Aralıksız atmış gün kefaret orucu tutmak.
C) Orucunu bozduğu her günü kaza etmek.
D) Her gün için bir fidye vermek.

15. **Zekât ile ilgili aşağıda verilen bilgilerden hangisi yanlıştır?**

- A) Zekât verilecek malın veya paranın üzerinden bir yıl geçmesi gerekir.
B) Akıllı, zengin ve ergenlik çağına girmiş Müslümanlara farzdır.
C) Toprak ürünlerinin zekâtı kırkta bir olarak verilir.
D) Kişi anne ve babasına zekât veremez.

16. **Aşağıdakilerden hangisi haccın farzlarından biri değildir?**

- A) Şeytan taşlama
B) İhrama girmek
C) Arafat'ta vakfe
D) Kâbe'yi tavaf

3. OTURUM

(114) DİN KÜL. AHL. BİL. – 4

17. Hac ibadeti ile ilgili aşağıda verilen bilgilerden hangisi yanlıştır?

- A) Hem mal hem de bedenen yapılan bir ibadettir.
- B) Gücü yeten bütün Müslümanlara farzdır.
- C) Yılın belirli günlerinde yapılmazdır.
- D) Hacda kurban kesmek farzdır.

18. Kurban edilecek hayvanlar ile ilgili verilen bilgilerden hangisi doğrudur?

- A) Eti helal olan bütün hayvanlar kurban olarak kesilebilir.
- B) Sığır ve mandaların üç yaşını doldurmuş olması gerekir.
- C) Koyun ve keçinin bir yaşını doldurmuş olması gerekir.
- D) Develerin iki yaşını doldurmuş olması gerekir.

19. Aşağıdakilerden hangisi “salih amel” olarak değerlendirilemez?

- A) Sokak hayvanlarına sahip çıkmak
- B) Pazartesi ve Perşembe günleri oruç tutmak
- C) Yurtlarından çıkarılmış mazlumlara yardımcı olmak
- D) İbadetleri insanların beğenisini kazanmak için yapmak

20. “Ey Muhammed! De ki: Ben de ancak sizin gibi bir insanım. Ne var ki bana sizin ilahınız ancak bir tek ilahdır diye vahyolunuyor. Kim Rabbine kavuşmayı umuyorsa yararlı bir iş yapsın ve Rabbine ibadette kimseyi ortak koşmasın.” (Kehf suresi, 110. ayet)

Verilen ayette Hz. Peygamber’in hangi yönüne değinilmemiştir?

- A) Güvenilirlik
- B) Peygamberlik
- C) Tebliğ
- D) İnsani

1. Kim bir mümini bile bile öldürürse, onun cezası, içinde temelli kalacağı cehennemdir. Allah ona öfkelenmiş, onu lanetlemiş ve ona büyük bir azap hazırlamıştır.”(Nisa suresi, 93. ayet)

Bu ayet aşağıdaki hak ve özgürlüklerden hangisini korumaya yöneliktir?

- A) Yaşama hakkı
- B) İfade özgürlüğü
- C) Eğitim hakkı
- D) Düşünce özgürlüğü

2. Kişinin başkasına zarar vermeden düşündüğünü ve dilediğini yapabilmesi şeklinde ifade edilen kavram aşağıdakilerden hangisidir?

- A) Eşitlik
- B) Adalet
- C) Özgürlük
- D) İnanç

3. Hz. Peygamberin hicretten sonra mescid-i Nebevi’nin yanına “suffe”yi yaptırması onun aşağıdakilerden hangisine verdiği değeri göstermektedir?

- A) Yaşama ve sağlık hakkına
- B) Eğitim ve öğretim hakkına
- C) Özel yaşamın gizliliği hakkına
- D) Düşünce ve ifade özgürlüğüne

4. Aşağıdakilerden hangisi düşünce ve ifade özgürlüğünün bireye sağlamış olduğu haklardan biri değildir?

- A) Düşünce ve kanaatlerin tek başına ya da toplu olarak açıklanabilmesi
- B) Düşünce ve kanaatlerin baskı aracı olarak kullanılması
- C) Düşünce ve kanaatlerin savunulup, yaşanabilmesi
- D) Düşünce ve kanaatlerin başkalarına iletilebilmesi

5. “De ki: Hak, Rabbinizdendir. Artık dileyen iman etsin, dileyen inkâr etsin...” (Kehf suresi, 29. ayet)

Verilen ayette aşağıdaki hak ve özgürlüklerden hangisine vurgu yapılmıştır?

- A) Yaşama hakkı
- B) İfade özgürlüğü
- C) Eğitim hakkı
- D) İnanç özgürlüğü

6. “Allah’ın mescitlerinde onun adının anılmasını engelleyenler ve onların yıkılmasına uğraşan kimselerden daha zalim kim vardır...” (Bakara suresi, 114. ayet)

Bu ayet aşağıdaki haklardan hangisini korumaya yöneliktir?

- A) İnanç ve ibadet
- B) Seçme ve seçilme
- C) Özel yaşamın gizliliği
- D) Konut dokunulmazlığı

7. Aşağıdakilerden hangisi ekonomik haklardan biri değildir?

- A) Mülkiyet
- B) Çalışma ve kazanma
- C) Kamulaştırma
- D) Eğitim

8. Temel hak ve özgürlükler ile ilgili verilen ayetlerden hangisi diğerlerinden farklıdır?

- A) “...Birbirinizin gizli ve ayıp hallerini araştırmayınız...” (Hucurat suresi, 12. ayet)
- B) “...Allah alışverişi helal, faizi haram kılmıştır...” (Bakara suresi, 275. ayet)
- C) “İnsanları arkadan çekiştiren, gözle kaşla alay edenlerin vay haline!” (Hümeze suresi, 1. ayet)
- D) “...Kendi evinizden başka evlere, seslenip izin almadan, ev halkına selam vermeden girmeyiniz...” (Nur suresi, 27. ayet)

3. OTURUM

9. Aşağıdakilerden hangisi kul hakkı ile ilgili değildir?

- A) Kamu malına zarar vermek
- B) Namazı terk etmek
- C) Çevreyi kirletmek
- D) Rüşvet almak

10. Atatürk'e göre din aşağıdakilerden hangisi ile bağdaşmaz?

- A) Taassup
- B) Gerçeklik
- C) İlim
- D) Akıl

11. Aşağıdakilerden hangisi Diyanet İşleri Başkanlığı'nın kurulmasındaki amaçlardan biri değildir?

- A) Hurafelerin önüne geçmek
- B) Dinin doğru anlaşılmasını sağlamak
- C) Din hizmetlerinde birliği sağlamak
- D) Dinin devlet üzerindeki etkisini artırmak

12. Aşağıdakilerden hangisi İslam'a göre doğru bilgiye ulaşma yollarından biri değildir?

- A) Akıl
- B) Vahiy
- C) Kehanet
- D) Duyu

13. Aşağıdakilerden hangisi Peygamberimiz (sav.)'e vahyin geliş şekillerinden biri değildir?

- A) Perde arkasından
- B) Cebrail vasıtasıyla
- C) Kalbe ilham yoluyla
- D) Yazılı metin halinde

14. "Gerçek, ancak Rabbindendir. Artık, sakın şüpheye düşenlerden olmayasın."
(Bakara suresi 147. ayet)

Bu ayette aşağıdakilerden hangisine vurgu yapılmıştır?

- A) Aklın kullanılması gerektiğine
- B) Vahyin doğru ve kesin bilgi olduğuna
- C) Duyu organlarıyla gerçeğin bulunabileceğine
- D) Hz. Peygamberin rahmet olarak gönderildiğine

15. "Gizli ve hızlı söz, işaret, ilham" anlamına gelen kavram aşağıdakilerden hangisidir?

- A) Tertil
- B) Tefsir
- C) Vahiy
- D) Sünnet

16. Aşağıdaki ayet ve hadislerden hangisi İslam'ın bilime verdiği değere örnek oluşturmaz?

- A) "...Hiç bilenlerle bilmeyenler bir olur mu?..." (Zümer suresi, 9. ayet)
- B) "Ey iman edenler! Allah'ın size helal kıldığı iyi ve temiz şeyleri haram kılmayın..." (Mâide suresi, 87. ayet)
- C) Kıyamet gününde âlimlerin mürekkebi, şehitlerin kanı ile tartılır. (Hadis)
- D) İlim ve hikmet, Müminin yitiğidir. Her nerede bulursa alır. (Hadis)

17. Selçuklu veziri Nizamülmülk'ün 1067 yılında Bağdat'ta kurduğu medrese aşağıdakilerden hangisidir?

- A) Gök Medrese
- B) Karatay Medresesi
- C) Nizamiye Medresesi
- D) Çifte Minareli Medrese

18. "Kitabü'ş Şifa ve El-Kanun fit-Tıp" adlı eserler hangi Müslüman bilim adamına aittir?

- A) İbn-i Sina
- B) Piri Reis
- C) Ali Kuşçu
- D) İbn'ül-Heysem

19. Aşağıdakilerden hangisi İslam tarihinde ilk eğitim kurumu olarak kabul edilmektedir?

- A) Küttap
- B) Medrese
- C) Suffe
- D) Cami

20. Aşağıdaki âlimlerden hangisi hadis alanında meşhurdur?

- A) Ebu Davud
- B) Ebû Hanife
- C) İmam Şafîî
- D) İmam Maturidi

(116) DİN KÜL. AHL. BİL. – 6

1. Aşağıdakilerden hangisi İslam'ın evlilik ve aileyi teşvik etme amaçlarından biri değildir?

- A) Neslin korunmasını sağlamak
- B) Topluma yararlı bireyler yetiştirmek
- C) Kavmiyetçilik duygusunu geliştirmek
- D) Sevgi ve merhameti yaygınlaştırmak

2. Aşağıdakilerden hangisi aile kurumuna zarar verici davranışlardan biridir?

- A) Bencilikten uzaklaşmak
- B) Fedakârlıktan kaçınmak
- C) Sevgi ve şefkati hâkim kılmak
- D) Hak ve hürriyetlere saygılı olmak

3. Dinlerin evliliğe bakışı ile ilgili aşağıdaki bilgilerden hangisi yanlıştır?

- A) Yahudilikte evlilik, dini bir gelenektir.
- B) Bazı Hristiyan mezheplerinde boşanma yasaktır.
- C) İslam'da bir defa boşanan çiftler tekrar evlenemezler.
- D) Şintoizm'de zina sebebiyle boşananlar tekrar evlenemezler.

4. Aşağıdakilerden hangisi Hz. Peygamber tarafından "Allah katında en sevimsiz helal" diye tanımlanmıştır?

- A) Nikâh
- B) Savaş
- C) Yemin
- D) Boşanma

5. Aşağıdaki hadislerden hangisi aile içi iletişim ile ilgilidir?

- A) "Küçüklerine merhamet etmeyen, büyüklerine saygı göstermeyen bizden değildir."
- B) "Alışta, satışta borcunu istemekte kolaylık gösteren kimseye Allah rahmet etsin."
- C) "Zenginlerin çağrılıp fakirlerin davet edilmediği düğün yemeği ne kötüdür."
- D) "Yarım hurma ile bile olsa cehennem ateşinden korununuz."

3. OTURUM

6. “Dikkat ediniz, sizin kadınlar üzerinde, kadınlarında sizin üzerinizde hakları vardır...”

Bu hadiste vurgulanan konu aşağıdakilerden hangisidir?

- A) Sorumluluk B) Sadaka
C) İbadet D) İtaat

7. “Sıla-i rahim”in tanımı aşağıdakilerden hangisidir?

- A) Vatanı duyulan özlemdir.
B) Kişinin ailesine olan merhametidir.
C) Akılabayı ziyaret edip, gözetmektir.
D) Fakirlere karşı görevlerin yerine getirilmesidir.

8. Aşağıdakilerden hangisi anne babanın çocuklarına karşı olan görevlerinden biri değildir?

- A) Çocuklarını topluma hazırlamak
B) Onları iyi bir şekilde terbiye etmek
C) Çocukları arasında adaleti gözetmek
D) Çocuklarının tüm isteklerini karşılamak

9. Aşağıdakilerden hangisi İslam’ın yasakladığı davranışlardan biridir?

- A) İki bayram arası düğün yapmak
B) Evlilik dışı ilişki
C) Bekâr yaşamak
D) Boşanmak

10. Aşağıdakilerden hangisi Diyanet İşleri Başkanlığı’nın yurt dışındaki teşkilatlarından biridir?

- A) İl ve İlçe Müftülükleri
B) Din İşleri Yüksek Kurulu
C) Din Hizmetleri Ataşelikleri
D) Eğitim Hizmetleri Genel Müdürlüğü

11. Cezaevi vaizinin bağlı olduğu kurum aşağıdakilerden hangisidir?

- A) Müftülükler
B) İlahiyat Fakülteleri
C) Milli Eğitim Bakanlığı
D) Milli Eğitim Müdürlükleri

12. Aşağıdakilerden hangisi camide namaz kıldırmakla görevlidir?

- A) Müezzin B) Müftü
C) İmam D) Vaiz

13. Aşağıdakilerden hangisi Diyanet İşleri Başkanlığı’nın birimlerinden biri değildir?

- A) Hac ve Umre Hizmetleri Genel Müdürlüğü
B) Din Hizmetleri Genel Müdürlüğü
C) Dini Yayınlar Genel Müdürlüğü
D) Talim Terbiye Kurulu Başkanlığı

14. Aşağıdakilerden hangisi Diyanet İşleri Başkanlığı’nın hadis alanında yayımladığı eserlerden biridir?

- A) Hak Dini Kur’an Dili
B) Kur’an-ı Kerim ve Meali
C) Kur’an Yolu Türkçe Meal ve Tefsiri
D) Sahih-i Buhari Muhtasarı Tecrid-i Sarih Tercümesi ve Şerhi

15. Aşağıdakilerden hangisi Kur’an-ı Kerim’de “en şerefli varlık” olarak nitelendirilmektedir?

- A) Cin B) İnsan
C) Melek D) Peygamber

16. İnsanda güzellik hissi uyandıran, güzel duygu ve anlamlar içeren sanatla ilgili değer yargısıdır.

Tanımı yapılan kavram aşağıdakilerden hangisidir?

- A) Ahlak B) Estetik
C) Edebiyat D) Medeniyet

17. “Sen Rabbinin yoluna hikmet ve güzel öğütle çağır ve onlarla en güzel şekilde mücadele et!...”(Nahl suresi, 125. ayet)

Bu ayetten aşağıdaki sonuçlardan hangisi çıkarılamaz?

- A) İnsanlar Allah’ın dinine davet edilmelidir.
B) İnsan, görünüşüne önem vermemelidir.
C) Dil etkili bir şekilde kullanılmalıdır.
D) İnsanlarla iyi ilişkiler kurulmalıdır.

18. Aşağıdakilerden hangisi hüsnühat sanatının temsilcilerindendir?

- A) Hamit Aytaç
B) Dede Efendi
C) Hacı Arif Bey
D) Nigari

19. Kur’an Kerim ile ilgili verilen bilgilerden hangisi yanlıştır?

- A) Arap edebiyatına meydan okumuştur.
B) Hz. Muhammed(sav.)’in en büyük mucizesidir.
C) Allah’ın insana olan rahmetinin bir göstergesidir.
D) Yalnızca Arap toplumunu muhatap alan ilahi bir kitaptır.

20. Müslümanlar tarafından Endülüs’te inşa edilen cami aşağıdakilerden hangisidir?

- A) Kurtuba
B) Emeviyye
C) Süleymaniye
D) Kubbetüssahra

(122) FELSEFE – 2

1. İnsan eylemlerini ve bu eylemlerin dayandığı ilkeleri konu alan, iyi-kötü kavramlarını işleyen felsefe dalı aşağıdakilerden hangisidir?

- A) Bilgi felsefesi
B) Ahlak felsefesi
C) Siyaset felsefesi
D) Varlık felsefesi

2. Aşağıdakilerden hangisi ahlâk felsefesinin temel sorularındandır?

- A) Ahlakî eylemin bir amacı var mıdır?
B) Bilginin kaynağı nedir?
C) Ruh ölümsüz müdür?
D) Ortak estetik yargılar var mıdır?

3. OTURUM

3. • İnsan ahlaki eylemde bulunurken tamamen kendi iradesiyle özgür bir biçimde mi davranır?
• İnsan eylem ve kararlarında iç ve dış faktörlerin etkisi altında mıdır?

Ahlak felsefesinde bu sorular aşağıdakilerden hangisini belirlemeye yöneliktir?

- A) İnsanın özgürlük sorununu
B) En yüksek iyinin ne olduğunu
C) Ahlaki eylemin amacını
D) Evrensel ahlak yasasının varlığını

4. Sokrates'e göre ahlaki eylemin kaynağı bilgidir. Bilgi bizi doğru eyleme, bilgisizlik ise yanlış eyleme götürür.

Buna göre aşağıdakilerden hangisi Sokrates'in görüşüne uygundur?

- A) İnsan bilgiyi çıkarına kullanmalıdır.
B) Doğru eylemin ölçütü bilgidir.
C) Bilgi insanı mutsuzlaştırır.
D) İnsanlar kuralsız yaşmalıdır.

5. "Kendi sezgine uy ki, hem kendin hem de başkası için iyi olanı yapmış olasan" **düşüncesini ahlâk anlayışında savunan ve sezgiciliğin kurucusu olan filozof hangisidir?**

- A) J. Bentham B) T. Hobbes
C) H. Bergson D) J. Locke

6. I. Hazcılık
II. Anarşizm
III. Yararcılık

Verilenlerden hangileri evrensel ahlak yasasının varlığını reddeden yaklaşımlardır?

- A) Yalnız I B) I ve II
C) II ve III D) I,II ve III

7. **Aşağıdakilerden hangisi, ahlak yasasını tasavvuf düşüncesinde temellendiren düşünürlerden değildir?**

- A) Mevlana
B) Hobbes
C) Yunus Emre
D) Hacı Bektaş Veli

8. **Aşağıdakilerden hangisi siyaset felsefesinin sorularından değildir?**

- A) İktidar kaynağını nereden alır?
B) Bireyin temel hakları nelerdir?
C) Meşruiyetin ölçütü nedir?
D) İyi nedir?

9. **Max Weber'e göre, kaynağını yazılı hukuk kurallarından aldığı ve bu kuralların yönetilenleri olduğu gibi yönetenleri de bağladığı otorite biçimi aşağıdakilerden hangisidir?**

- A) Geleneksel otorite
B) Karizmatik otorite
C) Demokratik otorite
D) Despotizm

10. **Aşağıdakilerden hangisi bireyin siyasal haklarındanır?**

- A) Seçme ve seçilme hakkı
B) Özel mülkiyet hakkı
C) Yaşama hakkı
D) Sağlık hakkı

11. **Aşağıdakilerden hangisi ideal düzeni belirleyen ölçütlerdendir?**

- A) Karmaşa B) Korku
C) Adalet D) Baskı

12. **Platon "Yöneticiler filozof ya da filozoflar yönetici olmalı" sözüyle yöneticilerin öncelikle hangi özelliğe sahip olması gerektiğini ileri sürmüştür?**

- A) Cesaretli olma
B) Bilge olma
C) İtaatkâr olma
D) Çalışkan olma

13. **Ütopyalar, toplumsal düzenin iyileştirilemeyeceğine inanılan düşünürler tarafından, gerçekleşmesi fazla mümkün olmayan düşsel bir toplum modeli olarak tasarlanarak var olan sisteme eleştiriden doğmuştur.**

Buna göre, ütopyalara ilişkin aşağıdakilerden hangisi söylenemez?

- A) Zihinsel olduğu
B) Düşsel bir toplum düzeni olduğu
C) Mevcut sisteme eleştiri getirmesi
D) Hayata hemen geçirilebilecek şekilde düzenlendiği

14. Yusuf Has Hacib'e göre devlet, akla, adalete, doğru ve adil yasalara dayanmalıdır. Devlet bireyin gelişmesine katkıda bulunurken birey de erdemli olmaya çalışmalıdır.

Bu açıklama aşağıdaki sorulardan hangisine yanıt niteliği taşımaktadır?

- A) Birey - devlet ilişkisi nasıl olmalıdır?
B) Bürokrasiden vazgeçilebilir mi?
C) Yönetim biçimleri nelerdir?
D) Sivil toplum nedir?

15. **Estetiğin konusu aşağıdakilerden hangisidir?**

- A) Bilgi B) Güzellik
C) Bilim D) İnanç

16. **Aşağıdakilerden hangisi estetik yargıların özelliklerinden değildir?**

- A) Estetik yargılar bireyseldir.
B) Estetik yargılar sübjektiftir.
C) Estetik yargılar görelidir.
D) Estetik yargılar "iyi-kötü" şeklinde değerlendirmelerdir.

17. **Bir sanat eserinin en temel işlevi aşağıdakilerden hangisidir?**

- A) İnsanda estetik bir duygu oluşturmaya
B) Fayda amacı oluşturmaya
C) Mutlak doğrulara ulaştırması
D) Toplumsal kurallara uymayı sağlama

18. **Aşağıdakilerden hangisi din felsefesinin temel kavramlarından değildir?**

- A) İman B) Kutsal
C) Devlet D) Vahiy

19. **Din felsefesi, genel olarak dini, dinle ilgili konuları eleştirel, akıl ilkelerine bağlı olarak ele alan felsefe dalıdır.**

Aşağıdakilerden hangisi din felsefesinin sorduğu sorulardan değildir?

- A) Tanrının varlığı kanıtlanabilir mi?
B) Vahiy mümkün müdür?
C) Ruh ölümsüz müdür?
D) En iyi yönetim şekli hangisidir?

3. OTURUM

20. I. Teizm
II. Panteizm
III. Ateizm

Yukarıda verilenlerden hangileri, Tanrı'nın varlığını kabul eden görüşlerdendir?

- A) Yalnız I B) Yalnız II
C) I ve II D) II ve III

(124) SEÇMELİ FELSEFE – 2

1. Aşağıdakilerden hangisi ahlak felsefesinin temel kavramlarından **değildir**?

- A) Erdem B) Sorumluluk
C) İktidar D) Özgürlük

2. • İyi, insanın seçimiyle değer verilir.
• Özgürlük, bireyin bir baskı ve zorlama olmadan kendi seçimlerine göre isteklerini gerçekleştirmesidir.

Bunlara göre özgürlük ve iyinin ortak yönü aşağıdakilerden hangisinde verilmiştir?

- A) İnsan iradesine dayanması
B) İnsanın sadece iyiye yönelmesi
C) İnsana fayda sağlaması
D) İnsanın ölçülü hareket etmesi

3. Aşağıdaki yaklaşımlardan hangisi evrensel ahlak yasasının varlığını kabul eder?

- A) Haz Ahlakı
B) Sezgicilik
C) Fayda ahlakı
D) Anarşizm

4. Aristoteles'e göre cesaret denilen erdem, bilgiye dayanmayan gözünü budaktan sakınmama ile korkaklık arasında bir özelliktir.

Aristoteles'e göre aşağıdakilerden hangisi erdemdir?

- A) Davranışlardan haz almak
B) Kendi çıkarını düşünmek
C) Kural tanımamak
D) İki aşırı uç arasında orta yolu bulmak

5. Sartre'a göre insan, kendinden önce gelen ve onu belirleyen bir öze sahip değildir. İnsan önce var olmuş sonra kendi özünü oluşturmuştur.

Buna göre Sartre'ın düşüncesi aşağıdaki yargılardan hangisini desteklemez?

- A) İnsanın kendi tercihleri vardır.
B) İnsan, yaşamını kendi belirler.
C) İnsan özgür bir varlıktır.
D) İnsanın özü önceden belirlenmiştir.

6. Ahlak anlayışını varlık felsefesine dayandırarak, evren ve tanrıyı bir gören, insanın bilgi sayesinde olumsuz duygulardan kurtulacağını söyleyen panteist filozof aşağıdakilerden hangisidir?

- A) Spinoza B) Kant
C) Platon D) Sokrates

7. Tasavvuf düşüncesinde Tanrıya ulaşabilme yolu aşağıdakilerden hangisidir?

- A) Deney
B) Akıl
C) Sezgi ve aşk
D) Çıkar duygusu

8. Aşağıdakilerden hangisi siyaset felsefesinin temel kavramlarından dandır?

- A) Doğruluk B) Yönetim
C) Erdem D) Bilgi

9. İnsanı her şeyin ölçüsü olarak kabul eden sofistlerin ideal düzenle ilgili temel düşüncesi aşağıdakilerden hangisidir?

- A) İdeal düzen yoktur.
B) İdeal düzen eşitliğe dayanmalıdır.
C) İdeal düzen adalete dayanmalıdır.
D) İdeal düzen özgürlüğe dayanmalıdır.

10. İnsanda duygu, cesaret ve akıl olmak üzere üç yeti vardır. Bu üç yeti devlette üretici sınıf, asker sınıfı ve yönetici sınıfa karşılık gelir. İdeal devlet filozofların krallığında gerçekleşecektir.

Verilen düşünce aşağıdaki filozoflardan hangisine aittir?

- A) Sokrates B) Platon
C) Aristoteles D) Protagoras

11. İdeal düzenin, insanlar arasında tam eşitliğin gerçekleşmesiyle mümkün olacağını, bunun için de üretim araçlarının herkese ait olması gerektiğini savunan yaklaşım aşağıdakilerden hangisidir?

- A) Liberalizm B) Sosyalizm
C) Nihilizm D) Septisizm

12. Nihilistlere göre ideal bir düzen yoktur olmamalı da. Çünkü, ideal sistemler bireyselliği, yaratıcılığı, dolayısıyla özgürlüğü yok ederler.

Bu düşünce aşağıdaki felsefe alanlarından hangisinin konusunu oluşturur?

- A) Bilim felsefesi
B) Sanat felsefesi
C) Siyaset felsefesi
D) Din felsefesi

13. Zihinde tasarlanmış bir takım ilkelere göre oluşturulmuş hayali toplumu ifade eden kavram aşağıdakilerden hangisidir?

- A) Ütopya B) Karmaşa
C) Düzen D) Devlet

14. Aşağıdakilerden hangisi "1984" isimli ütopya eserinin yazarıdır?

- A) Farabi
B) Platon
C) George Orwel
D) Yusuf Has Hacıp

15. "Güzel" in ne olduğunu sorgulayan felsefe dalı aşağıdakilerden hangisidir?

- A) Etik B) Estetik
C) Ontoloji D) Epistemoloji

3. OTURUM

(133) TARİH – 3

16. Schiller'e göre sanat ile oyun arasında benzerlikler vardır. Her ikisi de insanı gündelik yaşamın kaygı, sıkıntı ve korkularının dışına çıkarır, her ikisi de yarar amacı gütmeyen zevk verir.

Buna göre sanatla oyun arasındaki benzerlik aşağıdakilerden hangisinde verilmiştir?

- A) Fayda amacı gütmeme
B) Doğayı taklit etme
C) Korkularımızla yüzleşme
D) Gereksiz faaliyette bulunma

17. Aşağıda estetik yargılarla ilgili olarak verilen ifadelerden hangisi **yanlıştır**?

- A) Estetik yargılar bireyseldir.
B) Estetik yargılar kültürel özelliklerden etkilenir.
C) Estetik yargılar "güzel-çirkin" şeklinde değerlendirmelerdir.
D) Estetik yargılar, bireylerin nasıl davranması gerektiğini açıklayan yargılardır.

18. Aşağıdakilerden hangisi din felsefesinin temel kavramlarından dır?

- A) Bilgi B) Erdem
C) Güzellik D) Vahiy

19. Din felsefesi genel olarak dini, insanlardaki din duygusunun ne olduğunu, inancın yapısını eleştirel olarak incelemeye çalışan felsefe dalıdır. Bunu yaparken herhangi bir dinin yanında veya karşısında yer almaz.

Açıklamada aşağıdakilerden hangisi üzerinde durulmuştur?

- A) Tanrının varlığı
B) Evrenin yaratılışı
C) Felsefenin dine yaklaşımı
D) Dinin toplum yaşamındaki yeri

20. Tanrı, mutlak varlık, varlığın anlamı gibi metafizik kavramların bilgisinin elde edilemeyeceğini savunan Thomas Huxley, Tanrının varlığıyla ilgili aşağıdaki görüşlerden hangisini savunur?

- A) Deizm B) Ateizm
C) Panteizm D) Agnostisizm

1. Osman Bey, 1281 yılında aşağıdakilerden hangisinin ölümü sonrasında Kayı boyunun başına geçmiştir?

- A) Orhan Bey'in
B) Ertuğrul Bey'in
C) Şeyh Edebalı'nın
D) III. Alaeddin Keykubat'ın

2. I. Çirmen Savaşı
II. Niğbolu Savaşı
III. Sırpsındığı Savaşı
IV. Ankara Savaşı

Yukarıdaki savaşların hangileri Osmanlı padişahı I. Murat Dönemi siyasi olaylarındandır?

- A) Yalnız II B) I ve II
C) I ve III D) II, III ve IV

3. "Koyunhisar Savaşı" denilince akla ilk, aşağıdakilerden hangisi gelmelidir?

- A) İlk Osmanlı - Bizans savaşı olduğu
B) Bursa'nın fethini gerçekleştirdiği
C) Balkanlara yerleşmenin önünü açtığı
D) Roma İmparatorluğu'nun ikiye bölünmesine neden olduğu

4. Eflak ve Boğdan beylerine verilen unvan, aşağıdakilerden hangisidir?

- A) Tekfur B) Despot
C) Şövalye D) Voyvoda

5. Tımar sisteminin bozulması Osmanlı Devleti'ni, aşağıdaki alanların hangisinde olumsuz etkilediği söylenemez?

- A) Ekonomik B) Askerî
C) Siyasi D) Dinî

6. Osmanlı Devleti'nde sancaklara gönderilen şehzadelere yardımcı olan tecrübeli ve bilgili kişilere ne ad verilir?

- A) Kadı B) Lala
C) Subaşı D) Nişancı

7. İslam halifesi, Osmanlı padişahı Yıldırım Bayezit'e "Sultaniiklimirum" (Anadolu'nun Sultanı) unvanını, aşağıdaki hangi başarısından dolayı vermiştir?

- A) İstanbul'u fethetmek için Anadolu Hisarı'nı yaptırması
B) İstanbul'u kuşatan ilk Osmanlı padişahı olması
C) Niğbolu'da büyük bir Haçlı ordusunu yenmesi
D) Anadolu Türk birliğini sağlamaya çalışması

8. Fetret Devri'ne son veren Osmanlı padişahı, aşağıdakilerden hangisidir?

- A) II. Murat
B) II. Mehmet
C) Mehmet Çelebi
D) Yıldırım Bayezit

9. Osmanlılarda herhangi bir esnafın dükkân açma hakkına ne ad verilir?

- A) Gedik B) Dirlik
C) Ağnam D) İltizam

10. Aşağıdakilerden hangisi, Osmanlıların İstanbul'u fethetmek için yaptığı hazırlıklar arasında **sayılamaz**?

- A) Rumeli Hisarı'nın inşa edilmesi
B) Haliç'in girişine kalın zincirlerin çekilmesi
C) Aşırtma güllerle atacak havan toplarının yapılması
D) Surları aşmak için yürüyen tekerlekli kulelerin yapılması

11. Osmanlı padişahları "Hüdavendigâr" unvanını, aşağıdaki hangi padişahla birlikte kullanmaya başlamışlardır?

- A) I. Murat B) Orhan Bey
C) II. Mehmet D) I. Süleyman

12. Amasra'yı Cenevizlilerden alan Osmanlı padişahı, aşağıdakilerden hangisidir?

- A) Kanuni Sultan Süleyman
B) Yavuz Sultan Selim
C) Yıldırım Bayezit
D) Fatih Sultan Mehmet

3. OTURUM

13. Osmanlılarda gelirleri sınır boylarındaki askerlere verilen topraklar, aşağıdakilerden hangisidir?

- A) Paşmaklık B) Mukataa
C) Ocaklık D) Yurtluk

14. Osmanlı donanması, aşağıdaki hangi padişah döneminde Trabzon İmparatorluğu'nu tehdit edecek bir güce ulaşmıştır?

- A) II. Murat B) II. Osman
C) II. Mehmet D) II. Süleyman

15. Celali İsyanları, Osmanlı Devleti'nde hangi yüzyılda yoğun olarak yaşanmıştır?

- A) 15. yy B) 17. yy
C) 18. yy D) 20. yy

16. Aşağıdakilerden hangisi Yavuz Sultan Selim Dönemi olaylarından biri değildir?

- A) Memluk Devleti'nin hâkimiyetine son verilmesi
B) Kutsal Emanetlerin İstanbul'a getirilmesi
C) I. Viyana Kuşatması
D) Çaldıran Savaşı

17. Karlofça Antlaşması'yla Osmanlı Devleti'nden toprak almayan Kutsal İttifak devleti, aşağıdakilerden hangisidir?

- A) Malta B) Venedik
C) Lehistan D) Avusturya

18. Aşağıdakilerden hangisi, Osmanlı Devleti'nin 17. yüzyılda savaştığı devletlerden biri değildir?

- A) İran B) Fransa
C) Lehistan D) Avusturya

19. Hümanizm akımının aşağıdakilerden hangisine karşı olduğu söylenebilir?

- A) Bilime
B) Ticari faaliyetlere
C) Skolastik düşünceye
D) Bilimsel çalışmalara

20. Osmanlı Devleti'nin batıda toprak kazandığı son antlaşma, aşağıdakilerden hangisidir?

- A) Bucaş B) Hotin
C) Vasvar D) Karlofça

(134) TARİH – 4

1. Avrupa'da Rönesans ve Reform hareketleri ile başlayan pozitif ve özgür düşüncenin etkisiyle aşağıdakilerden hangisi yıkılmıştır?

- A) Meşrutiyet
B) Panslavizm
C) Merkantilizm
D) Skolastik düşünce

2. Aşağıdakilerden hangisi 1739 tarihli Belgrat Antlaşması'nın özelliklerinden biri değildir?

- A) Karadeniz'in Osmanlıya ait olduğunu belirten en son antlaşma olması
B) Osmanlı'nın Gerileme Dönemi'nde imzaladığı en kazançlı antlaşma olması
C) Kırım Hanlığı'nın bağımsızlığını kazanması
D) Belgrat'ın geri alınmasını sağlaması

3. Fransız İhtilali'nin toplumlar üzerindeki en belirgin etkisi, aşağıdakilerden hangisidir?

- A) Meşrutiyetçilik
B) Milliyetçilik
C) Sömürgecilik
D) Devletçilik

4. Fransız İhtilali ile sona eren çağ, aşağıdakilerden hangisidir?

- A) İlk Çağ B) Orta Çağ
C) Yeni Çağ D) Yakın Çağ

5. Avrupa'da XVIII. yüzyılda görülen savaşlar, aşağıdakilerden hangisidir?

- A) Veraset Savaşları
B) Otuz Yıl Savaşları
C) Yüzyıl Savaşları
D) Haçlı Savaşları

6. Aşağıdakilerin hangisinde ilk defa "Şark Meselesi" deyimini kullanılmıştır?

- A) Londra Konferansı
B) Viyana Kongresi
C) Lozan Konferansı
D) Colombo Konferansı

7. Müsadere usulünü kaldıran Osmanlı padişahı, aşağıdakilerden hangisidir?

- A) III. Selim B) Abdülaziz
C) IV. Murat D) II. Mahmut

8. Amerika Kitası'nı 1492 yılında bularak kıtaya adını veren Americo Vespucci, aşağıdaki hangi ülkenin denizcisidir?

- A) Avusturya B) Fransa
C) İtalya D) Rusya

9. 1829 Edirne Antlaşması'yla bağımsızlığını kazanan devlet, aşağıdakilerden hangisidir?

- A) Karadağ B) Yunanistan
C) Bulgaristan D) Arnavutluk

10. Osmanlı Devleti'ndeki azınlık ayaklanmalarının çıkmasında, Avrupa'da yaşanan aşağıdaki hangi olayın etkisi olduğu savunulabilir?

- A) Rönesans hareketlerinin
B) Reform hareketlerinin
C) Sanayi İnkılabı'nın
D) Fransız İhtilali'nin

11. Aşağıdakilerden hangisi Sanayi İnkılabı'nın sonuçlarından biri değildir?

- A) Pozitif düşüncenin gelişmesi
B) Küçük atölyelerin kapanması
C) Sendikaların kurulması
D) Refahın artması

3. OTURUM

12. Osmanlı halkı, aşağıdaki dönemlerin hangisinde devlet yönetimi-ne katılmaya başlamıştır?

- A) Lale Devri
- B) Kuruluş Devri
- C) Tanzimat Devri
- D) Meşrutiyet Devri

13. Aşağıdaki dağılmayı önleme çabalarından hangisi, yeni Türk devletinin temel taşlarından birini oluşturmuştur?

- A) Batıcılık
- B) İslamcılık
- C) Turancılık
- D) Osmanlıcılık

14. Tanzimat Fermanı'yla yenilik yapılmayan alan, aşağıdaki hangisidir?

- A) Hukuk
- B) Tarım
- C) Yönetim
- D) Askerlik

15. Türk tarihinde "Vakayihayriye" (Hayırlı Olay) olarak bilinen olay, aşağıdakilerden hangisidir?

- A) Asakirimansureimuhammediye Ordusu'nun kurulması
- B) 31 Mart Olayı'nın bastırılması
- C) II. Meşrutiyet'in ilan edilmesi
- D) Yeniçeri Ocağı'nın kaldırılması

16. Aşağıdakilerden hangisi, Osmanlı Devleti'nin âyanlara söz geçiremeyecek hâle geldiğinin göstergesidir?

- A) Senediittifak'ın imzalanması
- B) Tanzimat Fermanı'nın ilanı
- C) Mecelle'nin hazırlanması
- D) Islahat Fermanı'nın ilanı

17. 31 Mart Olayı'nı bastıran ordunun adı, aşağıdakilerden hangisidir?

- A) Kuvayımilliye birlikleri
- B) Kuvayıinzibatiye
- C) Hareket Ordusu
- D) 7. Ordu

18. I. Dünya Savaşı'nın cephelerinden olan Kanal Cephesi, aşağıdakilerden hangisinin isteği üzerine açılmıştır?

- A) İngiltere'nin
- B) Almanya'nın
- C) Fransa'nın
- D) İtalya'nın

19. Aşağıdakilerden hangisi, I. Dünya Savaşı'nın sonunda imzalanan Sen Jermen Antlaşması ile bağımsız bir devlet olarak ortaya çıkmıştır?

- A) Kosova
- B) Karadağ
- C) Arnavutluk
- D) Çekoslovakya

20. İtilaf Devletleri, I. Dünya Savaşı'nı bitiren antlaşmalardan biri olan Sevr Antlaşması'nı, aşağıdaki hangi İttifak Devleti ile imzalamıştır?

- A) Osmanlı
- B) Almanya
- C) Bulgaristan
- D) Avusturya - Macaristan

(142) T.C. İNK. TAR. ATA. – 2

1. Türkiye Cumhuriyeti Devleti'nin ilk meclis başkanı, aşağıdakilerden hangisidir?

- A) Refet Bele
- B) İsmet İnönü
- C) Fethi Okyar
- D) Kâzım Karabekir

2. Cumhuriyetin ilanından sonra eğitim öğretim alanında yapılan ilk çalışma, aşağıdakilerden hangisidir?

- A) Maarif Teşkilatı Hakkında Kanun'un çıkarılması
- B) Tevhid-i Tedrisat Kanunu'nun kabulü
- C) Medreselerin kapatılması
- D) Latin Harflerinin kabulü

3. "Medeniyim diyen Türkiye'nin gerçekten medeni olan halkı, baştan aşağıya dış görünümü ile dahi, medeni ve olgun insanlar olduklarını fiilen göstermeye mecburdur."

ATATÜRK

Atatürk'ün bu sözü, aşağıdaki hangi inkılabı destekler niteliktedir?

- A) Harf inkılabını
- B) Soyadı Kanunu'nu
- C) Kılık kıyafet değişikliğini
- D) Ölçüler, saat ve takvimdeki değişiklikleri

4. Türkiye'nin ilk muhalefet partisi, aşağıdakilerden hangisidir?

- A) Millet Partisi
- B) Demokrat Parti
- C) Serbest Cumhuriyet Fırkası
- D) Terakkiperver Cumhuriyet Fırkası

5. Aşağıdaki ayaklanmalardan hangisi cumhuriyetin ilanından sonra yaşanmıştır?

- A) Koçkiri
- B) Şeyh Sait
- C) Şeyh Eşref
- D) Çerkez Ethem

6. Uşak'ta özel sektörün bir şeker fabrikası kurması, İzmir İktisat Kongresi'nde alınan aşağıdaki kararlardan hangisine uygun düşmektedir?

- A) Millî bankaların kurulmasının sağlanması
- B) Yatırımların devlet eliyle gerçekleştirilmesi
- C) Yabancıların kurduğu tekellerden kaçınılması
- D) Ham maddesi yurt içinde olan sanayi dallarının kurulması

7. Kadın ile erkek arasındaki sosyal ve ekonomik eşitlik, aşağıdakilerden hangisiyle sağlanmıştır?

- A) Tekke ve zaviyelerin kapatılmasıyla
- B) Tevhid-i Tedrisat Kanunu'yla
- C) Türk Medeni Kanunu'yla
- D) Soyadı Kanunu'yla

3. OTURUM

8. Atatürk'ün önemli bir maddi desteği ile kurulan **ilk** özel Türk bankası, aşağıdakilerden hangisidir?

- A) İş Bankası
- B) Halkbank
- C) Sümerbank
- D) Ziraat Bankası

9. 1879'da Seraskerlik makamına bağlı olarak kurulan **Umum Jandarma Merkezi**, aşağıdaki dönemlerin hangisinde yeniden düzenlenerek "Umum Jandarma Komutanlığı"na dönüştürülmüştür?

- A) Tanzimat Dönemi
- B) I. Meşrutiyet Dönemi
- C) II. Meşrutiyet Dönemi
- D) Cumhuriyet Dönemi

10. Mustafa Kemal'e, Türkiye Büyük Millet Meclisi "Atatürk" soyadını, aşağıdaki tarihlerin hangisinde vermiştir?

- A) 05 Aralık 1934
- B) 09 Şubat 1934
- C) 21 Haziran 1934
- D) 24 Kasım 1934

11. "Türkiye'nin güvenliğini gaye tutan, hiçbir milletin aleyhinde olmayan bir barış istikameti bizim daima prensibimiz olacaktır."

ATATÜRK

Atatürk'ün bu vecizesini, aşağıdakilerden hangisiyle ilişkilendirebiliriz?

- A) Eğitim
- B) Adalet
- C) Dış politika
- D) Batılılaşma

12. Türkiye'nin Musul'u İngiliz mandası altındaki Irak'a bırakmak zorunda kalması, aşağıdakilerden hangisine aykırıdır?

- A) Misakımillî'ye
- B) Bristol Raporu'na
- C) Sevr Antlaşması'na
- D) Tekâlif-i Milliye Emirlerine

13. Aşağıdakilerden hangisinin oluşmasında İtalya ve Almanya'nın uyguladığı saldırgan politikaların etkisi **yoktur**?

- A) Sadabat Paktı'nın
- B) Balkan Antantı'nın
- C) Montrö Sözleşmesi'nin
- D) Kuzey Atlantik İttifakı'nın

14. Hatay Türk Devleti Meclisi, aşağıdaki tarihlerin hangisinde aldığı kararla Türkiye Cumhuriyeti'ne katılmıştır?

- A) 23 Haziran 1939
- B) 29 Haziran 1939
- C) 4 Temmuz 1938
- D) 20 Temmuz 1936

15. Kurtuluş Savaşı'nın zaferle sonuçlanmasında büyük etkisi olan Atatürk ilkesi, aşağıdakilerden hangisidir?

- A) Laiklik
- B) Devletçilik
- C) Milliyetçilik
- D) Cumhuriyetçilik

16. Halifeliğin kaldırılması inkılabını, aşağıdaki hangi Atatürk ilkesi ile ilişkilendirebiliriz?

- A) Laiklik
- B) Halkçılık
- C) Devletçilik
- D) Milliyetçilik

17. Atatürk'ün yakalandığı hastalığı ilk teşhis eden doktor, aşağıdakilerden hangisidir?

- A) Rıza Nur
- B) Fissenger
- C) Adnan Adıvar
- D) Nihat Reşat Belgeler

18. Türkiye'de II. Dünya Savaşı yıllarında, aşağıdaki siyasi partilerden hangisi iktidarda bulunuyordu?

- A) Demokrat Parti
- B) Millî Kalkınma Partisi
- C) Cumhuriyet Halk Partisi
- D) Sosyal Demokrat Halkçı Parti

19. Küçük Antant, aşağıdaki hangi iki devlete karşı kurulmuştur?

- A) İtalya ve Almanya'ya
- B) Macaristan ve Bulgaristan'a
- C) Bulgaristan ve Yunanistan'a
- D) Çekoslovakya ve Yugoslavya'ya

20. NATO'nun **en yetkili organı**, aşağıdakilerden hangisidir?

- A) NATO Konseyi
- B) Askerî Komite
- C) NATO Asamblesi
- D) NATO Sekreterliği

(153) COĞRAFYA – 3

1. Balıkesir, Bursa ve Bilecik mermer yataklarının bulunduğu illerimizdendir.

Bu durum bu illerin arazilerinin jeolojik geçmişiyle ilgili aşağıdakilerden hangisine kanıt oluşturur?

- A) Fiziksel ayrışmanın fazla olduğuna
- B) Yoğun bir tortulaşma evresi geçirdiğine
- C) Metamorfizmanın etkili olduğuna
- D) Organik kökenli kalıntıların fazla olduğuna

2. Çok sayıda mağara, polye, sarkıt ve dikit gibi yer şekilleri bulunan bir yerde aşağıdaki kayaç türlerinden hangisi yaygındır?

- A) Kimyasal tortul kayalar
- B) Dış püskürük kayalar
- C) Fiziksel tortul kayalar
- D) Başkalaşım kayaları

3. Levha sınırlarında sıcak su kaynaklarının fazla olması bu bölgelerde yenilenebilir enerji kaynaklarından hangisinin potansiyelini artırır?

- A) Hidroelektrik
- B) Jeotermal
- C) Rüzgâr
- D) Dalga

3. OTURUM

4. Endonezya, İtalya, İzlanda ve Japonya levha sınırında yer alan ülkelerden bazılarıdır.

- I. Deprem riskinin yüksek olması
- II. Volkanik faaliyetlerin fazla olması
- III. Gelişmişlik düzeylerinin farklı olması

Bu ülkelerin levha sınırında yer alması yukarıdaki özelliklerden hangileri üzerinde etkilidir?

- A) Yalnız I
- B) Yalnız II
- C) I ve II
- D) II ve III

5. Deniz ve okyanus sularının içme ve sulama suyu olarak kullanılmamasının temel nedeni aşağıdakilerden hangisidir?

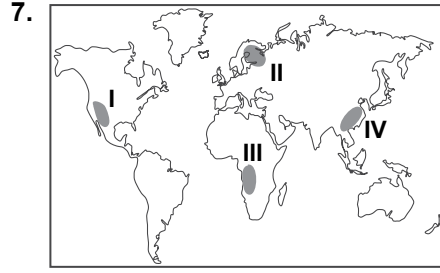
- A) Sularının tuzlu olması
- B) Hızla kirleniyor olmaları
- C) Su sıcaklıklarının farklı olması
- D) Çeşitli canlıların yaşam alanı olması

6. Coğrafya gezisi kapsamında Göller Yöresi'ne giden bir öğrenci grubu burada bulunan Beyşehir Gölü'nün sularının tatlı, Burdur Gölü'nün sularının ise tuzlu olduğunu tespit etmişlerdir. Bu durumun nedeni ile ilgili aşağıdaki görüşleri ileri sürmüşlerdir.

- **Ali**; göllerin büyüklüklerinin farklı olması bu duruma neden olmuştur
- **Azra**; göllerin üzerinde olduğu kayaçların farklı olması bu duruma neden olmuş olabilir
- **Duru**; göllerden birinin gideğinin olması diğerinin olması bunun nedeni olabilir
- **Fatih**; göllerin beslenme kaynaklarının farklı olması bu duruma neden olmuş olabilir

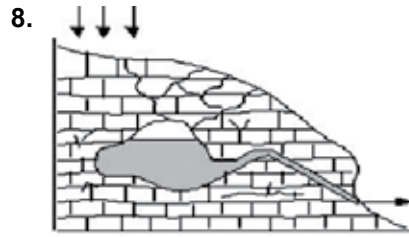
Buna göre hangi öğrencinin ileri sürdüğü görüşün bu durum üzerinde daha çok etkili olduğu söylenebilir?

- A) Ali
- B) Azra
- C) Duru
- D) Fatih



Buzul gölleri haritada numaralandırılarak verilen yerlerden hangisinde daha yaygındır?

- A) I
- B) II
- C) III
- D) IV



Şekilde gösterilen kaynak türü aşağıdakilerden hangisidir?

- A) Karstik kaynak
- B) Gayzer kaynağı
- C) Yamaç kaynağı
- D) Artezyen kaynağı

9. • Suları sıcaktır
• Mineral bakımından zengindir

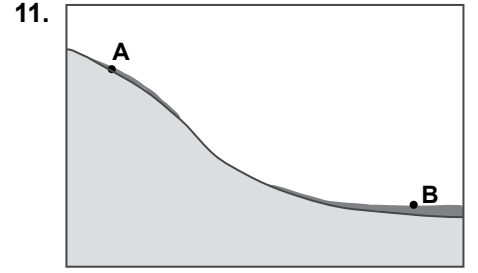
Fay kaynaklarının yukarıda verilen özellikleri hangi alanda önemini daha fazla artırmıştır?

- A) İçme suyu
- B) Sulama suyu
- C) Enerji üretimi
- D) Kaplıca turizmi

10. Humus bitki artıklarının çürümesiyle toprağa karışan ve toprağın verimliliğini artıran organik maddelerdir.

Buna göre, aşağıda verilen yerlerden hangisinde humus miktarının daha fazla olması beklenir?

- A) Tunduralarda
- B) Kurak alanlarda
- C) Çalılık alanlarda
- D) Ormanlık alanlarda



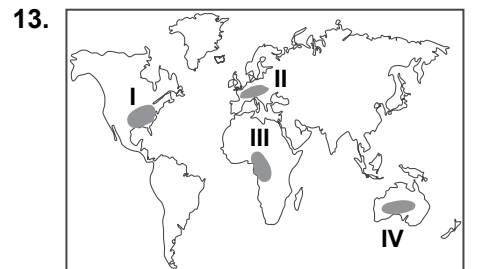
Şekildeki A merkezindeki toprak örtüsünün B merkezindeki orana daha ince olması aşağıdakilerden hangisinin sonucudur?

- A) Ayrışan malzemelerin dış kuvvetler ve yerçekiminin etkisiyle taşınması
- B) Düşen yağış miktarının ve yağış çeşidinin farklılaşması
- C) Bitki tür ve çeşitliliğinin yükseklere çıkıldıkça değişmesi
- D) Yıllık ve günlük sıcaklık ortalamalarının farklılık göstermesi

12. I. Yağış
II. Basınç
III. Sıcaklık
IV. Rüzgârlar

Bitki örtüsünün dağılışı ve gelişimi üzerinde daha çok etkili olan faktörler aşağıdakilerin hangisinde birarada verilmiştir?

- A) I ve II
- B) I ve III
- C) II ve IV
- D) III ve IV

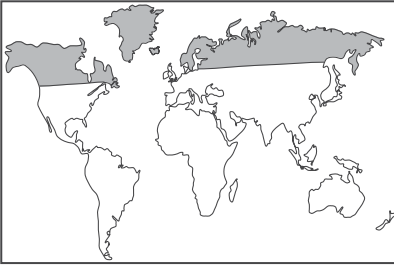


Haritada numaralandırılarak verilen alanlardan hangisinde nüfus artış hızları daha fazladır?

- A) I
- B) II
- C) III
- D) IV

3. OTURUM

14.



Haritada taranarak gösterilen alanlarda nüfus yoğunluğunun az olmasında aşağıdakilerden hangisi **daha** belirleyici olmuştur?

- A) Sıcaklık ortalamalarının düşük olması
- B) Toprak örtüsünün verimsiz olması
- C) Yerçekillerinin engebeli olması
- D) Ulaşım ağlarının seyrek olması

15. I. Nüfusun yaş ortalamasının artması
II. Doğal nüfus artışının yavaşlaması
III. Çocuk nüfus oranının artması
- Ülkemizdeki doğum oranlarının düşmesinin yukarıdaki durumlardan hangilerine neden olması beklenir?

- A) Yalnız I
- B) Yalnız II
- C) I ve II
- D) II ve III

16. Prof. Dr. Aziz Sancar, Mardin'in Savur ilçesinde 1946 yılında doğmuştur. 1969 yılında İstanbul Üniversitesi Tıp Fakültesinden mezun olduktan iki yıl sonra ABD'ye göç etmiştir. Buradaki DNA onarımı konusundaki çalışmaları sayesinde 2015 Nobel Kimya Ödülü'nü kazanmıştır.

Bu durum aşağıdaki göç türlerinden hangisine örnek oluşturur?

- A) İşçi göçü
- B) Beyin göçü
- C) Zorunlu göç
- D) Mübadele göçü

17. Eğitim, sağlık, bankacılık, turizm, güvenlik ve ulaşım gibi iş kolları hangi ekonomik faaliyet grubunda yer alır?

- A) Birincil ekonomik faaliyetler
- B) İkincil ekonomik faaliyetler
- C) Üçüncül ekonomik faaliyetler
- D) Dördüncül ekonomik faaliyetler

18. Aşağıda, dört farklı bölgedeki çalışan nüfusun ekonomik faaliyet kollarına dağılımı verilmiştir.

| Bölge | Tarım (%) | Sanayi (%) | Hizmet (%) |
|-------|-----------|------------|------------|
| I | 78,6 | 5,7 | 15,7 |
| II | 7,1 | 26,2 | 66,7 |
| III | 74,8 | 7,3 | 17,9 |
| IV | 2,3 | 29,3 | 68,4 |

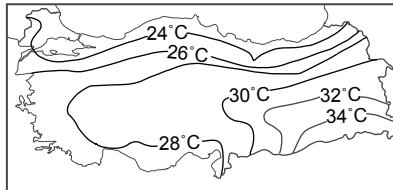
Buna göre bölgelerden hangisinin gelişmişlik düzeyi **daha** fazladır?

- A) I
- B) II
- C) III
- D) IV

19. Türkiye üç tarafı denizlerle çevrili bir yarımada ülkesidir. Aşağıdakilerden hangisi bu durumun sonuçlarından **değildir**?

- A) Ortalama yükseltinin fazla olması
- B) Akarsu boylarının kısa olması
- C) İklim çeşitliliğinin fazla olması
- D) Kıyı uzunluğunun fazla olması

20.



Yukarıdaki Türkiye temmuz ayı ortalama sıcaklık dağılışı haritası incelendiğinde aşağıdakilerden hangisine **ulaşamaz**?

- A) En yüksek sıcaklık ortalamaları Güneydoğu Anadolu'da görülür.
- B) Güneyden kuzeye gidildikçe sıcaklık ortalamaları genel olarak azalmaktadır.
- C) Deniz kıyılarında sıcaklık ortalamaları 30°C'nin altındadır.
- D) İç bölgelerde sıcaklık ortalamaları en düşüktür.

(154) COĞRAFYA – 4

1. Aşağıdaki haritada ülkemizdeki delta ovalarının dağılışı gösterilmiştir.



Bu ovalarımızda yaygın olan toprak tipi aşağıdakilerin hangisinde verilmiştir?

- A) Tuzlu topraklar
- B) Alüvyal topraklar
- C) Çernezyom toprakları
- D) Kahverengi orman toprakları

2. Arazisinin yaklaşık %36'sı tarıma uygun olan ülkemiz, ürün çeşitliliğinde dünyanın önde gelen ülkeleri arasında yer almaktadır.

Buna göre Türkiye'deki tarım ürünleri çeşitliliğinde aşağıdakilerden hangisinin etkisi **daha fazladır**?

- A) Yer şekilleri
- B) İklim çeşitliliği
- C) Toprak çeşitliliği
- D) Nüfus yoğunluğu

3. Türkiye'deki bitki çeşitliliği, yüzölçümü bakımından kendisinden yaklaşık 15 kat büyük olan Avrupa Kıtası'ndan daha fazladır.

Türkiye'nin aşağıdaki özelliklerinden hangisinin bu durum üzerinde etkisi **yoktur**?

- A) Farklı iklim özelliklerinin görülmesi
- B) Toprak türlerince zengin olması
- C) Akarsu rejimlerinin düzensiz olması
- D) Arazinin kısa mesafelerde farklılıklar göstermesi

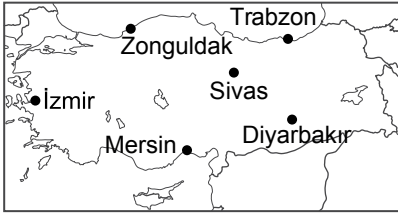
3. OTURUM

4. Ülkemizde kızılçam, karaçam, köknar, sedir ve ladin gibi iğne yapraklı ağaç türlerinin yanısıra; meşe, kayın, kestane, kavak gibi geniş yapraklı ağaç türlerinde yayılış alanı bulunmaktadır.

Bu durum Türkiye ile ilgili aşağıdakilerden hangisine kesin kanıt oluşturur?

- A) Karışık orman kuşağında bulunduğuna
B) Üç tarafının denizlerle çevrili olduğuna
C) Dağların kıyıya paralel uzandığına
D) Kıyı ve iç kesimler arasında iklim farkı olduğuna

5. Yük taşımacılığında en ekonomik taşıma türü deniz taşımacılığıdır.



Buna göre; 10 bin tonluk bir yükün haritada verilen şehirlerden hangileri arasında daha ucuz taşınması beklenir?

- A) Trabzon - Zonguldak
B) İzmir - Sivas
C) Diyarbakır - Mersin
D) Zonguldak - Sivas

6. Türkiye'de çok sayıda baraj bulunması akarsularımızın aşağıdaki özelliklerinden hangisinin sonucudur?

- A) Boylarının kısa olmasının
B) Dar ve derin vadilerde hızlı akmalarının
C) Rejimlerinin düzensiz olmasının
D) Genellikle açık havzalı olmalarının

7. Akdeniz kıyılarında turizmin gelişmesinde aşağıdaki özelliklerden hangisinin etkisi daha azdır?

- A) Denize girme süresinin uzun olması
B) Deniz suyu sıcaklığının fazla olması
C) Güneşlenme süresinin fazla olması
D) Yer şekillerinin engebeli olması

8. • Göçebe çobanların çadırlarından oluşan yerleşmelerdir.
• Batı ve Güneydoğu Toroslar ile Doğu Anadolu ve Güneydoğu Anadolu'da yaygındır.

Yukarıda bazı özellikleri verilen köy altı yerleşmesi aşağıdakilerden hangisinde verilmiştir?

- A) Yayla B) Oba
C) Mahalle D) Mezra

9. • İşlek bir limana sahiptir.
• İthalat ve ihracat yoğunudur.
• Sanayi tesisleri, iş yeri ve pazarlara sahiptir.

Aşağıdakilerden hangisi yukarıda verilen özelliklere sahip şehirler arasında gösterilemez?

- A) İzmir B) Mersin
C) İstanbul D) Artvin

10. I. Okuryazarlık oranı
II. Kırsal nüfus oranı
III. Ortalama yaşam süresi

1950'den 2015 yılına kadar geçen sürede ülkemizin nüfus özellikleri ile ilgili yukarıda verilenlerden hangilerinde artış olmuştur?

- A) Yalnız I B) Yalnız II
C) I ve III D) II ve III

11. Aşağıdakilerden hangisi kırdan kente yapılan göçleri önlemek için alınabilecek tedbirler arasında gösterilemez?

- A) Besi ve ahır hayvancılığını yaygınlaştırmak
B) Modern tarım yöntemlerini yaygınlaştırmak
C) Kırsal alanlarda eğitim ve sağlık hizmetlerini iyileştirmek
D) Tarım topraklarının miras yoluyla bölünmesini sağlamak

12. Aşağıdakilerden hangisi sanayi devriminden önce icat edilmiştir?

- A) Kağıt
B) Radyo
C) Telefon
D) Fotoğraf makinesi

13. Akdeniz'den diğer deniz ve okyanuslara çıkmak isteyen bir gemi aşağıdaki su yollarının hangisinden yararlanamaz?

- A) Cebelitarık Boğazı
B) İstanbul Boğazı
C) Panama Kanalı
D) Süveyş Kanalı

14. Aşağıdakilerden hangisinin Dünya deniz taşımacılığındaki önemi daha azdır?

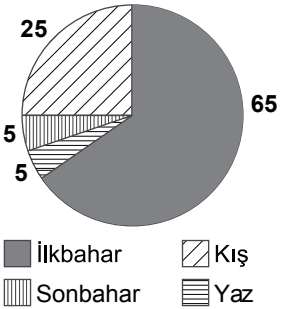
- A) Süveyş kanalının
B) Cebelitarık boğazının
C) Panama kanalının
D) Bering boğazının

15. Aşağıdakilerden hangisi erozyonu hızlandıran durumlardandır?

- A) Doğal bitki örtüsünü yok etmek
B) Ağaçlandırma çalışmaları yapmak
C) Eğimli yamaçlarda teraslama yapmak
D) Tarım arazilerini eğime dik sürmek

16. Aşağıdaki grafikte Türkiye'de gerçekleşen heyelan olaylarının mevsimlere dağılışı oranları verilmiştir.

Heyelan Olayları (%)



Buna göre, grafikte ilgili aşağıdakilerden hangisi söylenemez?

- A) Heyelan olayları en fazla ilkbahar mevsiminde gerçekleşmektedir.
B) Yaz ve sonbahar mevsiminde gerçekleşen heyelan oranları eşittir.
C) Kış mevsiminde heyelan sonbahar ve yaz mevsimlerinden daha fazladır.
D) Ülkemizin batısındaki heyelan olayları doğusuna oranla daha fazladır.

3. OTURUM

(158) COĞRAFYA – 8

17. Bangladeş; Himalaya Dağları'nın güneyinde Ganj ve Brahmaputra nehirlerinin birleşerek Bengal Körfezi'ne döküldüğü muson iklimi bölgesinde yer almaktadır.

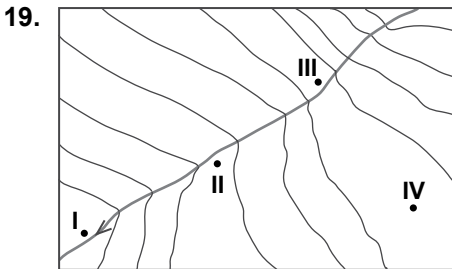
Bangladeş'in bu konumu ülkede aşağıdaki doğal afetlerden hangisinin sıklıkla yaşanmasına neden olmuştur?

- A) Sel ve taşkın
B) Deprem
C) Erozyon
D) Kuraklık

18. I. Orta Kuşak'ta yer alması
II. Üç tarafının denizlerle çevrili olması
III. Okyanuslara kıyısının olmaması

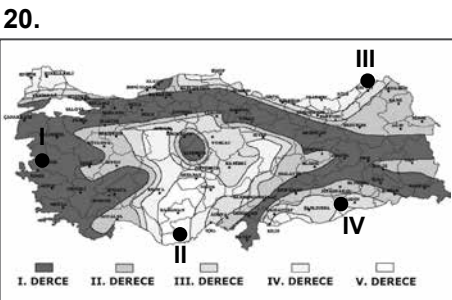
Yukarıdakilerden hangileri Türkiye'nin kasırga, tayfun ve hortum gibi tropikal fırtınaların yaygın görüldüğü ülkeler arasında yer almamasında etkilidir?

- A) Yalnız I B) Yalnız II
C) I ve III D) II ve III



Yukarıdaki topografya haritasında verilen merkezlerden hangisinde sel felaketi riski daha azdır?

- A) I B) II C) III D) IV



Haritada numaralandırılarak verilen yerlerden hangisinde deprem riski daha yüksektir?

- A) I B) II C) III D) IV

1. Ülkemizdeki nüfus artış hızında yirmi yıl öncesine oranla düşüşün olduğu gözlemlenmektedir.

Aşağıdakilerden hangisi bu düşüş üzerinde daha fazla etkili olmuştur?

- A) Ticaret hacminin artması
B) Yaşlı nüfus oranının artması
C) Evlenme yaşının yükselmesi
D) Bölgeler arasındaki nüfus farkının artması

2. Tabloda ülkemizin son otuz yıla ait nüfus miktarı ve nüfus artış hızları verilmiştir.

| Yıllar | Nüfus Miktarı (Milyon) | Yıllık Nüfus Artış Hızı (%) |
|--------|------------------------|-----------------------------|
| 1985 | 50 | 24,9 |
| 1990 | 56 | 21,7 |
| 2000 | 67 | 18,4 |
| 2010 | 73 | 15,9 |
| 2014 | 78 | 13,3 |

Tablodaki bilgilerden hareketle aşağıdakilerden hangisine ulaşılamaz?

- A) Nüfus miktarı verilen yıllarda sürekli artmıştır.
B) Nüfus artış hızı verilen yıllarda sürekli azalmıştır.
C) Nüfus miktarı 2000-2010 yılları arasında 70 milyonu geçmiştir.
D) 1985 ile 2014 yılları arasında nüfusa otuz milyondan fazla kişi eklenmiştir.

3. Ülkemizde 2000 yılında yaklaşık 5,5 milyon olan 65 yaş ve üzeri nüfusun 2050'ye kadar 17 milyona ulaşacağı tahmin edilmektedir. Bu durum ülkemiz nüfusunun yaşlanması ve ülke ekonomisine daha fazla maliyet eklenmesi anlamına gelecektir.

Aşağıdakilerden hangisi bu soruna çözüm olacak uygulamalar arasında yer almaz?

- A) Bebek ölüm oranlarını azaltmak
B) Hayat standartlarındaki iyileşmeyi yavaşlatmak
C) Doğum oranlarındaki düşüşü engellemek
D) Nüfusun genç ve dinamik yapısının devamına yönelik politikalar geliştirmek

4. Aşağıdaki hangisi GAP'ın uygulandığı illerimiz arasında yer almaz?

- A) Adıyaman B) Batman
C) Diyarbakır D) Kırklareli

5. Güneydoğu Anadolu Projesi'nin ülke ekonomisine yaptığı katkılar arasında aşağıdakilerden hangisi yoktur?

- A) Sulu tarım yapılan alanların artması
B) Hidroelektrik üretim miktarının artması
C) Madenlerden elde edilen gelir miktarının artması
D) Tarım ürünleri çeşitliliğini ve tarımsal üretim miktarının artması

6. Ülkemizde uygulanan bölgesel kalkınma projelerinin ortak amaçları arasında aşağıdakilerden hangisi gösterilemez?

- A) Halkın gelir düzeyinin yükseltilmesi
B) Bölgelerin avantajlı yönlerinin açığa çıkarılması
C) Bölgelerin ülke ekonomisine yaptığı katkı miktarının artırılması
D) Bölgeler arasındaki göçün artırılması

7. Ülkemizin aşağıdaki bölgelerden hangileri arasındaki kara, hava ve deniz yolu bağlantısının sağlanmasında etkisi yoktur?

- A) Kafkasya - Balkanlar
B) Orta Asya - Doğu Asya
C) Avrupa - Orta Doğu
D) Orta Asya - Balkanlar

8. Karadeniz'e kıyısı olan ülkelerin deniz yoluyla diğer deniz ve okyanuslara açılmasında İstanbul ve Çanakkale boğazları çok önemli bir yere sahiptir.

Buna göre, İstanbul ve Çanakkale boğazlarının aşağıdaki ülkelerden hangisinin deniz ulaşımındaki önemi daha azdır?

- A) Rusya B) Tunus
C) Gürcistan D) Bulgaristan

3. OTURUM

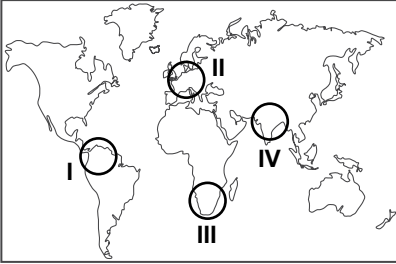
9. Azerbaycan'a ait Karabağ'ın işgal altında olması Türkiye ile aşağıdaki ülkelerden hangisi arasındaki ilişkileri olumsuz yönde etkilemektedir?

- A) Ermenistan B) İran
C) Yunanistan D) Suriye

10. Bir ülkenin gelişmişlik düzeyini belirlemede en çok kullanılan ölçüt aşağıdakilerden hangisidir?

- A) Kişi başına düşen gelir miktarı
B) Ortalama yaşam süresi
C) Enerji tüketim miktarı
D) Eğitim seviyesi

11. Ülkelerin gelişmişlik seviyeleri arttıkça, insani gelişim indeksinde sıralaması yukarılara çıkmaktadır.



Buna göre, haritada numaralandırılmış alanlardan hangisinde insani gelişim indeksi daha yüksektir?

- A) I B) II C) III D) IV

12. Aşağıdakilerden hangisi ülkemiz insani gelişim indeksinde üst sıralara taşıyabilecek bir uygulamadır?

- A) Sağlık alanında yatırımları arttırmak
B) Yatırımları bazı bölgelerde yoğunlaştırmak
C) Tarımda makine kullanımını azaltmak
D) Zorunlu eğitim süresini azaltmak

13. Aşağıdakilerden hangisi Almanya, Japonya, İngiltere, Fransa ve ABD gibi ülkelerin gelişmişlik düzeylerini arttırmaz?

- A) Yaşlı nüfusun toplam nüfus içindeki oranının artması
B) Sanayi ve tarımsal üretim kapasitesinin artması
C) İç ve dış ticaret hacimlerinin büyümesi
D) Nüfusun eğitim seviyesinin yükselmesi

14. Afrika Kıtası'nın en gelişmiş ekonomisine sahip ülkesi aşağıdakilerden hangisidir?

- A) Libya
B) Somali
C) Nijerya
D) Güney Afrika Cumhuriyeti

15. Petrol fiyatlarındaki düşüşler petrol üreten ülke ekonomilerini olumsuz etkilerken bu durum petrol ithal eden ülke ekonomilerine olumlu yansımaktadır.

Buna göre petrol ve doğalgaz fiyatlarındaki düşüşler aşağıdaki ülkelerden hangisinin ekonomisine olumlu yansır?

- A) İran
B) Türkiye
C) Suudi Arabistan
D) Rusya Federasyonu

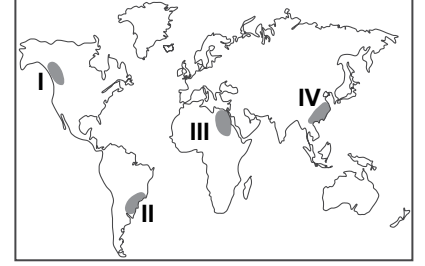
16. Aşağıdaki ülkelerden hangisi günümüzde gerçekleştirdiği hızlı büyüme ile dünya ekonomileri arasında hızla üst sıralara yükselmektedir?

- A) Çin B) ABD
C) Almanya D) Japonya

17. Günümüzde Ortadoğu ülkelerindeki çatışmaların temel nedeni aşağıdakilerden hangisinde verilmiştir?

- A) Toprak paylaşımı
B) Yeni pazar arayışları
C) Enerji kaynaklarının paylaşımı
D) Önemli ulaşım yollarının paylaşımı

18. Kurak ve yarı kurak iklim bölgelerinde su kaynaklarının kullanımının gelecekte olası bazı çatışmalara neden olma riski taşıdığı belirtilmektedir.



Bu risk haritada taralı alanlardan hangisinde daha yüksektir?

- A) I B) II C) III D) IV

19. Aşağıdakilerden hangisi ekolojik dengenin bozulmasına neden olan durumlardan değildir?

- A) Bilinçsiz avlanma
B) Çevre kirliliğinin artması
C) Canlıların yaşam alanlarının tahrip edilmesi
D) Yeni canlı türlerinin keşfedilmesi

20. A bölgesinde sanayileşme ve nüfus miktarı daha fazla olmasına rağmen B bölgesinde çevre kirliliği daha fazladır.

Bu durum aşağıdakilerden hangisine kanıt oluşturur?

- A) A bölgesinde arıtma ve geri dönüşüme önem verildiğine
B) A bölgesinin doğal kaynaklar bakımından daha zengin olduğuna
C) B bölgesinde bitki örtüsünün daha gür olduğuna
D) B bölgesinde şehirleşme oranının daha yüksek olduğuna

3. OTURUM

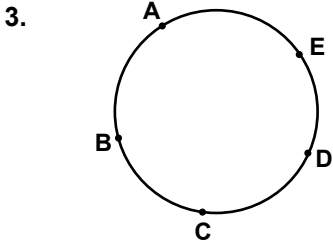
(163) MATEMATİK – 3

1. $\frac{n!}{(n-2)!} = 20$ olduğuna göre $n!$ kaçtır?

- A) 2 B) 6 C) 24 D) 120

2. $P(n, 2) + P(n, 1) = 64$ olduğuna göre n kaçtır?

- A) 4 B) 8 C) 12 D) 16



Şekildeki çember üzerinde bulunan A, B, C, D, E noktalarını köşe kabul eden en çok kaç farklı üçgen oluşturulabilir?

- A) 5 B) 10 C) 15 D) 20

4. Düzgün bir madeni para 4 kez havaya atılıyor. Paranın üst yüzüne 2 kez yazı, 2 kez tura gelme olasılığı nedir?

- A) $\frac{1}{16}$ B) $\frac{2}{8}$
C) $\frac{3}{8}$ D) $\frac{1}{2}$

5. $f: \mathbb{R} \rightarrow \mathbb{R}$,
 $f(x) = \frac{x}{2} + \frac{x}{3} + 1$ olduğuna göre $f^{-1}(11)$ kaçtır?

- A) 12 B) 11 C) 10 D) 9

6. $f, g: \mathbb{R} \rightarrow \mathbb{R}$,
 $f(x) = 3x - 1$ ve $g(x) = 4x$ olduğuna göre $(2f - g)(3)$ kaçtır?

- A) -2 B) -1 C) 0 D) 4

7. $f, g: \mathbb{R} \rightarrow \mathbb{R}$,
 $f(x) = x + 4$ ve $(f \circ g)(x) = 2x - 1$ olduğuna göre $g(7)$ kaçtır?

- A) 7 B) 9 C) 11 D) 13

8. Analitik düzlemde $K(m, 6)$ ve $L(3, -2)$ noktaları veriliyor. $|KL| = 10$ birim olduğuna göre m 'nin alabileceği değerler toplamı kaçtır?

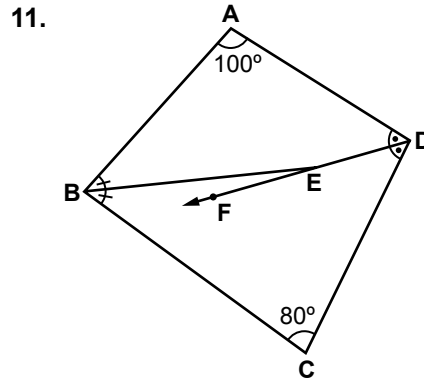
- A) 9 B) 8 C) 7 D) 6

9. $2x + 3y - 5 = 0$ ve $ax - 9y + 4 = 0$ denklemleri ile verilen doğrular birbirine paralel olduğuna göre a kaçtır?

- A) -6 B) -3 C) 2 D) 4

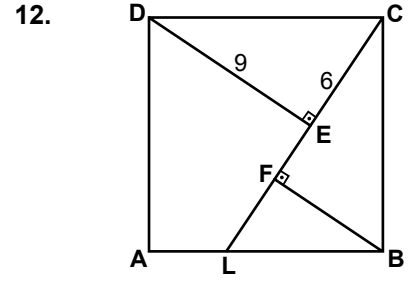
10. $L(-4, 1)$ noktasından geçen ve eğimi $\frac{2}{3}$ olan doğrunun denklemi aşağıdakilerden hangisidir?

- A) $3x - 2y - 11 = 0$
B) $2x - y + 5 = 0$
C) $2x - 3y + 11 = 0$
D) $3x - y + 8 = 0$



Şekildeki ABCD dörtgeninde $[BE]$, \widehat{ABC} 'nin; $[DF]$, \widehat{ADC} 'nin açıortayıdır. $m(\widehat{BAD}) = 100^\circ$ ve $m(\widehat{BCD}) = 80^\circ$ olduğuna göre $m(\widehat{BEF})$ kaç derecedir?

- A) 10 B) 15 C) 20 D) 25

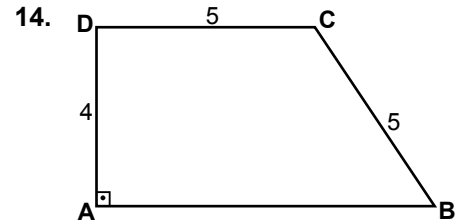


Şekildeki ABCD karesinde $[DE] \perp [CL]$ ve $[BF] \perp [CL]$ 'tir. $|CE| = 6$ cm ve $|DE| = 9$ cm olduğuna göre $|FL|$ kaç santimetredir?

- A) 5 B) 4 C) 2 D) 1

13. Bir dikdörtgenin uzun kenarının uzunluğu, kısa kenarının uzunluğunun 2 katıdır. Bu dikdörtgenin köşegeninin uzunluğu $4\sqrt{5}$ cm olduğuna göre alanı kaç santimetrekaredir?

- A) 16 B) 20 C) 30 D) 32

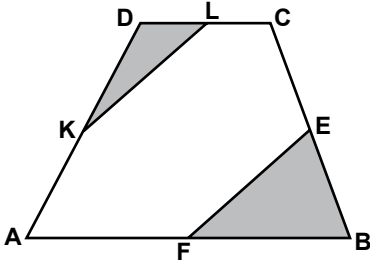


Şekildeki ABCD dik yamuğunda $[AB] \parallel [DC]$ ve $[DA] \perp [AB]$ 'tir. $|AD| = 4$ cm ve $|DC| = |CB| = 5$ cm olduğuna göre $A(ABCD)$ kaç santimetrekaredir?

- A) 20 B) 26 C) 30 D) 40

3. OTURUM

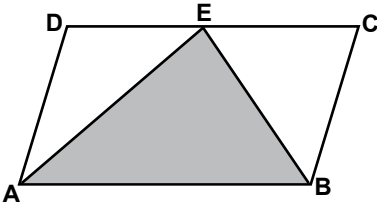
15.



Şekildeki ABCD dörtgeninde K, L, E, F noktaları buldukları kenarların orta noktalarıdır. $A(ABCD) = 60 \text{ cm}^2$ olduğuna göre $A(\widehat{DKL}) + A(\widehat{EFB})$ kaç santimetrekaredir?

- A) 30 B) 20 C) 15 D) 10

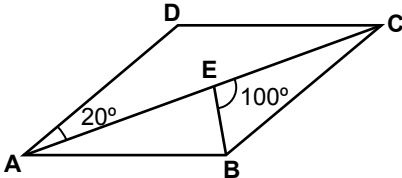
16.



Şekildeki ABCD paralelkenarında, E noktası [DC] üzerindedir. $A(\widehat{AEB}) = 32 \text{ cm}^2$ olduğuna göre $A(ABCD)$ kaç santimetrekaredir?

- A) 60 B) 64 C) 72 D) 96

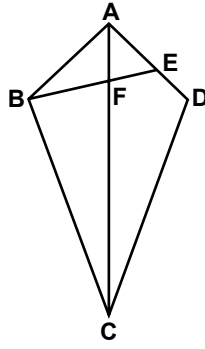
17.



Şekildeki ABCD eşkenar dörtgeninde [AC] köşegendir. $m(\widehat{DAC}) = 20^\circ$ ve $m(\widehat{BEC}) = 100^\circ$ olduğuna göre $m(\widehat{EBA})$ kaç derecedir?

- A) 80 B) 75 C) 70 D) 65

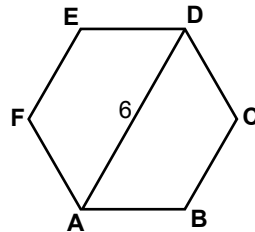
18.



Şekildeki ABCD deltoidinde $|BC| = |CD|$ ve $[AC] \cap [BE] = \{F\}$ 'tir. $3|FE| = 2|BF|$ olduğuna göre $\frac{|AE|}{|ED|}$ nedir?

- A) 3 B) $\frac{5}{2}$ C) 2 D) $\frac{3}{2}$

19.



Şekildeki ABCDEF düzgün altıgeninde $|AD| = 6 \text{ cm}$ olduğuna göre ABCDEF düzgün altıgeninin çevresi kaç santimetredir?

- A) 36 B) 30 C) 24 D) 18

20. Kenar sayısı 8 olan düzgün çokgenin bir iç açısının ölçüsü kaç derecedir?

- A) 115 B) 125
C) 135 D) 145

(165) MATEMATİK – 5

- $f: \mathbb{N}^+ \rightarrow \mathbb{R}, f(n) = \frac{10}{4n-3}$ dizisi veriliyor. Bu dizinin 7. terimi aşağıdakilerden hangisidir?
A) $\frac{1}{4}$ B) $\frac{2}{5}$ C) $\frac{7}{3}$ D) $\frac{3}{2}$
- Bir aritmetik dizinin ilk altı terimi a, b, c, 50, 60, 70 olduğuna göre $a - b + c$ kaçtır?
A) 20 B) 30 C) 40 D) 50
- Bir geometrik dizinin ilk terimi 3 ve ortak çarpanı $\frac{1}{3}$ olduğuna göre bu dizinin beşinci terimi kaçtır?
A) $\frac{1}{3}$ B) $\frac{1}{9}$ C) $\frac{1}{27}$ D) $\frac{1}{81}$
- Arka arkaya 5 sıra şeklinde dizilecek olan bir müzik korosunda en ön sırada 6 kişi, bundan sonraki her sırada ise bir öndeki sıradan 2 kişi fazla bulunmaktadır. Buna göre bu müzik korosunda toplam kaç kişi vardır?
A) 50 B) 55 C) 56 D) 60
- Beş basamaklı 81 25D sayısı 3 ile bölünebildiğine göre D aşağıdakilerden hangisi olabilir?
A) 1 B) 3 C) 6 D) 8
- Üç basamaklı 3B4 sayısı 4 ile bölünebildiğine göre B'nin alabileceği değerler toplamı kaçtır?
A) 20 B) 22 C) 24 D) 26
- Dört basamaklı 68X7 sayısının 6 ile bölümünden kalan 3 olduğuna göre X kaç farklı değer alabilir?
A) 1 B) 2 C) 3 D) 4

3. OTURUM

8. Altı basamaklı 7A3 B2C sayısı 11 ile bölündüğünde kalan 5 olduğuna göre A+B+C aşağıdakilerden hangisi olabilir?

A) 15 B) 16 C) 17 D) 18

9. 30, 75, A sayılarının EBOB'u 15 olduğuna göre en küçük üç basamaklı A sayısı kaçtır?

A) 100 B) 105 C) 115 D) 120

10. Aşağıdakilerden hangisinde verilen sayılar aralarında asaldır?

A) 10, 12, 30 B) 6, 9, 21
C) 4, 24, 48 D) 8, 18, 27

11. Bir torbadaki cevizler yedişerli dağıtıldığında 5, sekizerli dağıtıldığında 6 ve on beşerli dağıtıldığında 13 ceviz artıyor. Buna göre bu torbadaki ceviz sayısı en az kaçtır?

A) 988 B) 838 C) 538 D) 118

12. Maaşı 2000 lira olan bir kişi, ev kirası için 1000 lira, yakıt için 150 lira ve gıda için 250 lira harcamıştır. Buna göre bu kişinin bu harcamalar sonucunda maaşından kalan para tüm maaşının yüzde kaçındır?

A) 30 B) 40 C) 50 D) 60

13. Bir kazağın %25 indirimli satış fiyatı 90 liradır. Buna göre bu kazağın indirimden önceki fiyatı kaç liradır?

A) 99 B) 108 C) 117 D) 120

14. Aynı fabrikada çalışan iki işçiden biri 3 günde bir, diğeri 5 günde bir mesaiye kalmaktadır. Bu iki işçi 1 Ocak 2015 tarihinde birlikte mesaiye kaldıklarına göre, 2015 yılı içinde birlikte mesaiye kaldıkları gün sayısı kaçtır?

A) 25 B) 24 C) 23 D) 22

15. Bir işçinin brüt maaşından %25 gelir vergisi, %4 emekli sandığı ve %0,5 tasarruf fonu kesintisi yapılmaktadır. İşçinin eline geçen net maaşı 3525 lira olduğuna göre işçinin brüt maaşı kaç liradır?

A) 4000 B) 4500
C) 5000 D) 5500

16. 4000 lira, yıllık %15 basit faizle 2 yıllığına bankaya yatırılıyor. Buna göre ikinci yılın sonunda bankadan alınacak faiz kaç lira olur?

A) 600 B) 800
C) 1000 D) 1200

17. Yaş üzüm kurutulunca kütlesinin %30'unu kaybediyor. Buna göre 280 kg kuru üzüm kaç kilogram yaş üzümde elde edilir?

A) 320 B) 360 C) 400 D) 480

18. 1200 lira, yaşları 12, 13, ve 15 olan üç kardeş arasında yaşlarıyla doğru orantılı olacak biçimde paylaşılıyor. Buna göre en büyük kardeş kaç lira alır?

A) 350 B) 390 C) 400 D) 450

19. Bir otomobil A şehriden B şehrine sabit hızla ve mola vermeden 4 saatte gidiyor. Bu otomobil hızını yarıya düşürürse aynı yolu 1 saat mola vererek toplam kaç saatte gider?

A) 6 B) 7 C) 9 D) 10

20. Eşit iş gücündeki 15 traktör ile 90 dönüm tarla 4 saatte sürüldüğüne göre bu traktörlerden 10 tanesi ile 30 dönüm tarla kaç saatte sürülür?

A) 2 B) 3 C) 4 D) 5

(206) PSİKOLOJİ – 1

1. Aşağıdakilerden hangisi psikolojinin incelediği konulardan değildir?

A) Algı
B) Öğrenme
C) İnsan davranışları
D) Ekonomik değişmelerin toplumsal yapıya etkisi

2. Aşağıdakilerden hangisi bilimsel bilginin özelliklerinden değildir?

A) Sonuçlarının öznel bir nitelik taşıması
B) Araştırmalarında bilimsel yöntemi kullanması
C) Olaylarda neden – sonuç ilişkisini araştırması
D) Bilimsel genellemelere varmayı hedeflemesi

3. İnsan davranışlarını çevreye uyum süreci olarak tanımlayan, bilincin ne olduğundan çok, ne için olduğuyla ilgilenen psikoloji yaklaşımı aşağıdakilerden hangisidir?

A) Yapısalcı yaklaşım
B) İşlevselci yaklaşım
C) Hümanistik yaklaşım
D) Psikodinamik yaklaşım

4. Birey toplum etkileşimini inceleyen bilim dalı aşağıdakilerden hangisidir?

A) Genetik psikoloji
B) Eğitim psikolojisi
C) Sosyal psikoloji
D) Fizyolojik psikoloji

5. Bir futbol karşılaşmasında seyirci durumunda olan bir psikoloğun, insanların duygusal tepkilerini ölçmek için kullanabileceği öncelikli yöntem aşağıdakilerden hangisidir?

A) Test
B) Anket
C) Doğal gözlem
D) Vaka incelemesi

3. OTURUM

6. Aşağıdakilerden hangisi organizmanın tanımıdır?

- A) Her türlü canlı
- B) Uyarıcı - tepki ilişkileri
- C) Duyumların yorumlanması
- D) Uyarıcıların duyun organını etkilemesi

7. Aşağıdakilerden hangisi yetersiz uyarımın sonuçlarından değildir?

- A) Sanrıların görülmesi
- B) Algılama bozuklukları
- C) Davranışlarda düzensizlik
- D) Zeka testlerindeki puanların artması

8. Aşağıdaki ihtiyaçlardan hangisi toplumsal güdülere neden olur?

- A) Toplumda kabul görmek
- B) Dinlenme ihtiyacı
- C) Susuzluk
- D) Açlık

9. Zamanın, üzüntülü anlarımızda yavaş geçtiği, sevinçli anlarımızda hızlı geçtiği şeklinde algılanması aşağıdakilerden hangisiyle ifade edilir?

- A) Algıda seçicilik
- B) Subjektif zaman
- C) Algıda organizasyon
- D) Algıda bütünlük

10. I. Duyu organlarını harekete geçiren her türlü etki
II. Duyumları yorumlama, onları anlamlı hale getirme süreci
III. Uyarıcılar karşısında verilen ani irade dışı tepkiler

Açıklaması yapılan kavramlar sırasıyla aşağıdakilerden hangisidir?

- A) Algı – Davranış – Duyum
- B) Uyarıcı – Algı – Refleks
- C) İhtiyac – Güdü – Doyum
- D) Duyarsızlaşma- Duyum – Organizma

11. Aşağıdakilerden hangisi algıda seçiciliği etkileyen dış faktörlerdendir?

- A) Hareket eden uyarıcılar
- B) Kaygı ve sıkıntılar
- C) İlgı ve istekler
- D) İhtiyaçlar

12. Park halinde yanımızda duran otomobil hareket ettiğinde kendi otomobilimizi hareket ediyormuş gibi algılamamız aşağıdakilerden hangisine örnek olur?

- A) Hallüsinasyona
- B) Algıda tamamlamaya
- C) İllüzyona
- D) Algıda değişmezliğe

13. Aşağıdakilerden hangisi öğrenme sonucu kazanılan davranıştır?

- A) Örümceğin ağ örmesi
- B) Arının bal yapması
- C) Leyleklerin göç etmesi
- D) Bir çocuğun ağlayarak isteklerini elde etmesi

14. Çözümeyen bir fizik problemin parçaları arasındaki ilişkinin birdenbire görülmesi, öğrenme türlerinden hangisine örnektir?

- A) Klasik koşullanma yoluyla öğrenme
- B) Kavrama yoluyla öğrenme
- C) Model alarak öğrenme
- D) Motor öğrenme

15. I. Öğrenmede ilerlemenin bilinmesi yararlıdır.
II. Yeterli tekrarlar yapmak başarıyı artırır.
III. Aralıklı öğrenme daha verimli olur.

Öğrenme başarısını artırmada yukarıda verilenlerden hangileri doğrudur?

- A) I ve II
- B) I ve III
- C) II ve III
- D) I, II ve III

16. Aşağıdakilerden hangisinde “çağırışım” söz konusu değildir?

- A) Gelinliğin düğünü anımsatması
- B) Anıtkabir’in Ankara’yı anımsatması
- C) Beyaz tavşanın karanlıkta beyaz olarak algılanması
- D) 1453 yılının İstanbul’un fethini hatırlatması

17. Önceden belenmiş olan ama o anda aklımızda aktif durumda olmayan bilgilerin bir uyarı ile zihinde canlanması aşağıdaki kavramlardan hangisiyle ifade edilir?

- A) Kodlama
- B) Hatırlama
- C) Ket vurma
- D) Unutma

18. İnsan yalnızca var olan değildir, aynı zamanda kendini var olan olarak algılayabilen, duygularının ve yaptıklarının farkında olandır.

Açıklaması yapılan kavram aşağıdakilerden hangisidir?

- A) Bilinç
- B) Hipnoz
- C) Meditasyon
- D) Biyolojik saat

19. Aristoteles “dil düşünmenin elbisidir” der.

Bu yargı aşağıdakilerden hangisini desteklemez?

- A) Düşünmeyle dil arasındaki sıkı bir ilişki vardır.
- B) Düşünme, dil olsa da olmasa da vardır.
- C) Düşünce ifadesini sadece dilde bulur.
- D) Düşünme dilden önce de vardır.

20. Aşağıdakilerden hangisi uyku bozukluklarından biri değildir?

- A) Aşırı uyku
- B) Kesintili uyku
- C) Uykuya dalma güçlüğü
- D) Uyku sırasında rüya görülmesi

3. OTURUM

(209) SOSYOLOJİ – 2

1. Aşağıdaki kültürel öğelerden hangisi nitelik yönünden diğerlerinden farklıdır?

- A) Değer yargıları
- B) Görgü kuralları
- C) Yazılı ve yazısız kurallar
- D) Okul ve fabrika binaları

2. Bir sosyolog Japon toplumundaki düşün törenleri ile Türk toplumundaki düşün törenlerini inceleyerek karşılaştırma yapmış ve iki toplum arasında birçok farklılık olduğunu ortaya koymuştur.

Bu durum, kültürün hangi özelliğine örnektir?

- A) Toplumdan topluma değişmesi
- B) Coğrafi koşullardan etkilenmesi
- C) Kültürün tarihsel süreçte oluştuğu
- D) Aynı toplumda zamanla değişmesi

3. Bireyin içinde yaşadığı toplumun kurallarını ve değerlerini öğrenme süreci aşağıdaki kavramlardan hangisiyle ifade edilir?

- A) İşbölümü
- B) Kalabalık
- C) Sosyalleşme
- D) Kültürel gecikme

4. Ülke yönetimi ile ilgili yasa ve yönetim ilişkilerinin düzenlenmesi aşağıdaki kurumlardan hangisinin temel görevlerindedir?

- A) Din
- B) Siyaset
- C) Aile
- D) Eğitim

5. Sevgi, saygı gibi duygusal ihtiyaçların giderilmesi ailenin hangi temel işlevlerindedir?

- A) Toplumsallaştırma
- B) Ekonomik
- C) Psikolojik
- D) Neslin devamı

6. Aşağıdaki evlilik türlerinden hangisinde “eşin seçildiği grup” ölçüt olarak alınmıştır?

- A) Egzogami
- B) Matrilokal
- C) Patrilokal
- D) Neolokal

7. Aşağıdakilerden hangisi Türk Medeni Kanununda belirtilen boşanma nedenlerinden değildir?

- A) Terk
- B) Cana kast
- C) Suç işleme
- D) Kadının çalışması

8. Güneş, ay, yıldızlar gibi doğa güçlerine inanma hangi dinin özelliğidir?

- A) Fetişizm
- B) Natürizm
- C) Politeizm
- D) Monoteizm

9. Aşağıdakilerden hangisi, laik devletin özelliklerinden değildir?

- A) Devletin bütün inanış biçimlerine eşit uzaklıkta olması
- B) Bireylerin din ve vicdan özgürlüğüne sahip olması
- C) Devletin bireylerin inanç özgürlüğünü güvenceye alması
- D) Toplumsal yaşamın dini kurallara göre oluşturulması

10. İnsanların ihtiyaç duydukları mal ve hizmetleri elde etmek için bir nesnenin yapısında, biçiminde veya yerinde değişiklik yapma etkinliği üretimdir.

Buna göre, aşağıdakilerden hangisi üretime örnek değildir?

- A) Yoğurdu yemek
- B) Sütten peynir yapmak
- C) Zeytinden yağ elde etmek
- D) Çimentoyu inşaatta kullanmak

11. Aşağıdakilerden hangisi iş bölümünün yararlarından değildir?

- A) Toplum üyeleri arasında işbirliğini geliştirir.
- B) Kısa sürede daha fazla iş yapılmasını sağlar.
- C) Hep aynı işi yapan bireyde yabancılaştırma duygusu başlar.
- D) Bireylere istekli olduğu alanda çalışma imkanı sağlar.

12. I. Vatandaşların ekonomik, sosyal ve kültürel ihtiyaçlarını gidermek
II. Ülke sınırları içinde ve dışında milli çıkarları korumak
III. İç ve dış tehlikelere karşı ülkenin bağımsızlığını korumak

Verilenlerden hangileri devletin işlevlerindedir?

- A) I ve II
- B) I ve III
- C) II ve III
- D) I, II ve III

13. Egemenliğin kaynağını halkın iradesine dayandıran devlet biçimi hangisidir?

- A) Monarşik devlet
- B) Oligarşik devlet
- C) Demokratik devlet
- D) Aristokratik devlet

14. “Ülkeyi yönetmek için kurulan ve belirli bir programı olan örgütlenmiş gruplardır.”

Tanımı verilen kavram aşağıdakilerden hangisidir?

- A) Parlamento
- B) Siyasi parti
- C) Meşruyet
- D) Egemenlik

15. Demokratik devletin temel özelliklerinde biri de yasama, yürütme ve yargı yetkilerinin baskıcı bir yönetim oluşturmamak için farklı organlara verilmesidir.

Demokratik devletin bu özelliği aşağıdaki kavramlardan hangisi ile ifade edilir?

- A) Güçler ayrılığı
- B) Yargının bağımsızlığı
- C) Hukukun üstünlüğü
- D) Kuvvetler birliği

16. Bir toplumda eğitim, ekonomi teknoloji gibi alanlarda meydana gelen olumlu değişmeler hangi kavramla ifade edilir?

- A) Gerileme
- B) İlerleme
- C) İsyan
- D) İhtilal

3. OTURUM

17. Aşağıdakilerden hangisi “demografik” etkene bağlı toplumsal değişimdir?

- A) Kitle iletişim araçlarının yaygınlaşması
- B) Nüfus artış hızı
- C) Doğal zenginliklerden yoksun kalmak
- D) Ekonomik gelişmelerin hızlanması

18. Aşağıdakilerden hangisi toplumsal gelişmenin unsurlarından değildir?

- A) Milli birlik bilincinin zayıflaması
- B) Orta tabaka genişlemesi
- C) Toplumsal bütünleşme
- D) Ekonomik büyüme

19. Aşağıdakilerden hangisi toplumsal çözülmeye neden olur?

- A) Eğitimde fırsat eşitliğinin olması
- B) Vatandaşlar arasında ayrım gözetilmemesi
- C) Milli gelirin adil paylaşılması
- D) Demokratik kurumlaşma yeterliliği

20. Aşağıdakilerden hangisi Türkiye Cumhuriyeti'nin kuruluşundan önce yapılan toplumsal değişimlerden değildir?

- A) Soyadı Kanunu'nun çıkarılması
- B) Medenî Kanun'un kabul edilmesi
- C) Kanun-ı Esasî'nin ilan edilmesi
- D) Halifeliğin kaldırılması

(242) İNGİLİZCE – 3

1 - 20. sorularda boş bırakılan yere uygun gelen kelime ya da ifadeyi işaretleyiniz.

1. She doesn't like meat, ---- does his mother.

- A) or B) nor C) but D) and

2. A: Where is ---- bag?
B: Your bag is over there.

- A) his B) mine
- C) their D) my

3. Serap didn't study for the exam, ---- she got a low mark.

- A) so B) nor
- C) but D) or

4. ---- men are the oldest workers of the company.

- A) This B) That
- C) These D) They

5. Mary is at work. She is working ----.

- A) tomorrow B) sometimes
- C) yesterday D) at the moment

6. I can't buy this t-shirt because I haven't got ---- money with me now.

- A) some B) any
- C) many D) a few

7. A: Would you like some coke?
B: No, thanks. ---- coke.

- A) I love B) I like
- C) I hate D) I enjoy

8. I am new here so I have ---- friends in this city.

- A) any B) a few
- C) a little D) much

9. A: Do you have any plans for the weekend?
B: Yes, ----.

- A) I went to İstanbul to visit my friend
- B) I usually go shopping on Tuesdays
- C) I am going to drive to Ankara
- D) I have gone to New York City

10. The post office ---- at 5 p.m. every weekday.

- A) studies B) works
- C) comes D) closes

11. They are going to move their new house ----.

- A) next week B) at the moment
- C) yesterday D) often

12. Serkan is a mechanic. ---- a car at the moment.

- A) He is going to fix
- B) He is fixing
- C) He will fix
- D) He fixed

13. ---- people are there on the bus now?

- A) How long B) How often
- C) How many D) How much

14. What time does your father ---- to work?

- A) goes B) went
- C) go D) going

15. Ali bought a ---- last week.

- A) new black leather jacket
- B) black jacket new leather
- C) leather black new jacket
- D) jacket new leather black

16. Hasan loves cooking. He often ---- his mother in the kitchen.

- A) helping B) helps
- C) helped D) help

17. The walls of my house are very dirty, so ----.

- A) I am going to paint them at the weekend.
- B) he has wonderful paintings in his room.
- C) we are flying to London next week.
- D) they will buy a new car.

18. A: ---- often do you visit your relatives?
B: Every month.

- A) How B) Why
- C) What D) Where

3. OTURUM

19. Selma doesn't like fast-food. She ----- eats fatty food.

- A) always B) often
C) never D) usually

20. A: Do you need anything for the cookies?

B: We need ----- butter and ----- eggs.

- A) a little / much
B) a few / many
C) many / much
D) some / a few

(242) ALMANCA – 3

1 - 15. sorularda boş bırakılan yere uygun gelen kelime ya da ifadeyi işaretleyiniz.

1. A: Woher kommen Sie?

B: ----- Deutschland.

A: Wo wohnen Sie?

B: ----- der Türkei.

- A) In / Aus B) Aus / In
C) Aus / Aus D) In / In

2. Die jung- ----- Dame tanzt sehr schön. (Nominativ)

- A) -e B) -em
C) -en D) -es

3. A: ----- fliegst du nach Spanien?

B: Morgen um zehn Uhr.

- A) Wie B) Wohin
C) Warum D) Wann

4. Hasan ----- heute nicht kommen, weil er krank ist.

- A) werde B) werden
C) wird D) wirst

5. Wir ----- morgen eine Klassenarbeit schreiben.

- A) haben B) werden
C) sein D) machen

6. Die Kinder schlafen im -----.

- A) Küche
B) Wohnzimmer
C) Schlafzimmer
D) Badezimmer

7. sprechen, -----, gesprochen (Präteritum)

- A) sprach B) spricht
C) sprichst D) spreche

8. Ich komme ----- Istanbul und fahre ----- Antalya weiter.

- A) bis / zum B) von / nach
C) aus / ins D) nach / zur

9.



Wie ist das Wetter?

Es -----.

- A) ist sonnig B) regnet
C) schneit D) ist windig

10. Der Teppich liegt ----- dem Boden.


- A) in B) auf C) um D) zur

11. A: ----- sitzt die Katze?

B: Vor ----- Fenster. (das Fenster, Dativ)

- A) Wo / dem B) Was / das
C) Wer / der D) Wem / den

12.



A: Wo ist der Hund?

B: Er ist ----- dem Sofa.

- A) vor B) hinter
C) auf D) neben

13. Unser Lehrer sagt, ----- wir viel lernen sollen.

- A) weil B) denn
C) dass D) aber

14. Mutter : Ayşe, hast du ----- angezogen?

Ayşe : Ja, Mutter.

- A) dir B) mir C) dich D) sein

15.



Was ist sein Beruf?


Er ist -----.

- A) Koch B) Mechaniker
C) Ingenieur D) Sportler

16. Hangi seçenekte sıfatların zıt anlamlısı yanlış verilmiştir?

- A) warm x kalt
B) dünn x schlank
C) reich x arm
D) schnell x langsam

17.



Was ist das?

- A) ein Bild B) eine Tür
C) ein Fenster D) ein Tisch

18. Aşağıdakilerden hangisi bileşik kelime değildir?

- A) Grundschule
B) Haustür
C) Schokolade
D) Fußball

3. OTURUM

19. Verilen sözcüklerden bir grup oluşturulduğunda hangisi farklıdır?

- A) Schule B) Regen
C) Schnee D) Sonne

20. Aşağıdakilerden hangisi "Kinder-" kelimesini tamamlamaktadır?

- A) -haus B) -glas
C) -tasche D) -garten

(242) FRANSIZCA – 3

1 - 15. sorularda boş bırakılan yere uygun gelen kelime ya da ifadeyi işaretleyiniz.

1. - - - - ont combien de chats et de chiens?

- A) Nous B) Vous
C) Ils D) Elle

2. Hier soir, - - - - est allé au concert de Nilüfer.

- A) elle B) il C) je D) tu

3. Çetin - - - - ne voyage pas beaucoup, préfère lire des magazines.

- A) qui B) où C) que D) dont

4. Le village - - - - j'habite est tranquille.

- A) dont B) qui
C) donc D) où

5. Le film - - - - je suis allé voir samedi dernier était excellent.

- A) qui B) dont
C) où D) que

6. - - - - il pleut, Pierre prend parfois son parapluie.

- A) Quand B) Pourquoi
C) Comment D) Combien

7. Ils se sont promenés dans les rues de Mardin - - - - deux semaines.

- A) au B) il y a
C) aux D) dans

8. Zeynep aime faire du - - - - à Palandöken.

- A) boxe B) natation
C) ski D) photographie

9. - - - - , Nicole ira à la plage pour faire de la peinture.

- A) Lundi dernier
B) Hier
C) Demain
D) Pendant

10. La ville - - - - tu parles est au nord de la France.

- A) que B) dont C) où D) qui

11. Les jeunes mangent - - - - le match de foot à la télé.

- A) en regardant
B) écouter
C) en buvant
D) regarder

12. Le professeur - - - - du thé porte une belle veste.

- A) jouent B) en jouant
C) boire D) buvant

13. Paul fait des petites réparations à la maison en - - - - de la musique.

- A) voyageant B) écoutant
C) dansant D) sachant

14. Ils ne vont pas - - - - la plage - - - - moto.

- A) au / en B) à / à
C) en / à D) en / aux

15. Pour acheter de la viande, je vais à - - - - .

- A) l'épicerie B) la librairie
C) la boucherie D) le restaurant

16. "Mon mari et ma fille font des exercices physiques." cümlesinde altı çizili sözcüklerin yerine aşağıdaki şahıs zamirlerinden hangisi kullanılabilir?

- A) Ils B) Nous
C) Vous D) Elles

17 - 18. sorularda verilen cümlelerin Türkçe karşılığını işaretleyiniz.

17. J'ai aperçu Zeynep en entrant dans le restaurant.

- A) Zeynep'i lokantada yemek yerken gördüm.
B) Zeynep'le lokantada yemek yedik.
C) Zeynep lokantada yemek yerken görüldü.
D) Zeynep'i lokantaya girerken farkettim.

18. Sylvie travaille en écoutant la radio.

- A) Sylvie radyosunu kapatarak çalışmaya başladı.
B) Sylvie radyo dinlerken ders çalışıyor.
C) Sylvie radyo dinlerken kahvaltısını yapıyor.
D) Sylvie radyo dinlerken uyuyakaldı.

19 - 20. sorularda verilen cümlelerin Fransızca karşılığını işaretleyiniz.

19. İzmir'de çalışan arkadaşlarını arıyor.

- A) Il cherche ses amis travaillant à İzmir.
B) Il a des amis habitant à İzmir.
C) Ils habitent à İzmir depuis deux ans.
D) J'habite à İzmir chez une amie.

20. Okuldan çıkarken Sibel'i gördüm.

- A) Sibel a vu l'accident devant l'école.
B) J'ai rencontré Sibel entrant dans l'école.
C) J'ai vu Sibel en sortant de l'école.
D) Elle a vu Sibel sortant de l'école.

3. OTURUM

(403) DİL VE ANLATIM – 3

1. Aşağıdakilerden hangisi iletişimin ögelerinden biri değildir?

- A) Kanal B) Alıcı
C) Bağlılık D) Kaynak

2. Göndericinin alıcıya aktardığı duygu, düşünce ya da isteğe ---- denir.

Bu cümlede boş bırakılan yere aşağıdakilerden hangisi getirilmelidir?

- A) dönüt B) kod
C) bağlam D) ileti

3. ----, dilin bilgi verme işlevidir. Amaç, gönderge konusunda doğru, nesnel, gözlenebilir bilgi vermektir. Daha çok bilimsel metinlerde, nesnel anlatımlarda karşımıza çıkar.

Bu parçada boş bırakılan yere aşağıdakilerden hangisi getirilmelidir?

- A) Heyecana bağlı işlev
B) Göndergesel işlev
C) Sanatsal işlev
D) Kanalı kontrol işlevi

4. Aşağıdakilerden hangisi tartışma başkanının görevlerinden biri değildir?

- A) Konuşmacıları dinleyicilere tanıtmak
B) Tartışma kurallarına uymayanları uyarmak
C) Konuşmacılara yerine göre sorular yöneltmek
D) Tartışmaya ara vererek kendi fikirlerini iletmek

5. Aşağıdakilerden hangisi sunumdan önce yapılması gerekenlerden biridir?

- A) Bilgisayar, mikrofon gibi teknolojik araçlardan faydalanmak
B) Güncel bir konu seçmek
C) Ses tonuna, jest ve mimiklere dikkat etmek
D) Dinleyicilerin sorularını yanıtlamak

6. ----, karşımızdakinin düşünce, duygu ve kanılarını değiştirmeyi amaçlayan bir tartışma çeşididir. Duyguya, coşkuya değil; kanıtlara yaslanılarak yapılır. Çoğunlukla öğrenciler arasında ve sınıf ortamında düzenlenir.

Bu parçada boş bırakılan yere aşağıdakilerden hangisi getirilmelidir?

- A) Münazara B) Forum
C) Panel D) Sunum

7. Aşağıdakilerden hangisi panelin özelliklerinden değildir?

- A) Konuşmacı sayısı 3 ila 6 arasında değişebilir.
B) Toplumun ilgilendiren bir konu, uzmanları tarafından tartışılır.
C) Bir konuda karara varmak amaçlanır.
D) Konuşmalar başkanın verdiği sıra ve süreye göre yapılır.

8. ---- ile panel, özellikleri yönüyle birbirine çok benzer, arada sadece üslup farkı vardır.

Bu cümlede boş bırakılan yere aşağıdakilerden hangisi getirilmelidir?

- A) Sunum B) Münazara
C) Konferans D) Açık oturum

9. Söyle sevda içinde türkümüzü Aç bembeyaz bir yelken Neden herkes güzel olamaz Yaşamak bu kadar güzelken?

Bu dörtlüğün teması aşağıdakilerden hangisidir?

- A) Yaşama sevinci
B) Vatan sevgisi
C) Gurbet acısı
D) Ayrılık

10. Her çocuk bulunduğu ortama ve ortamın kültür özelliğine göre dilini kullanır; birtakım değer ve davranışlar geliştirir. Kültür merkezlerinden uzak bölgelerde yaşayan insanların dillerinde farklılıklar görülmektedir. Bir düşün için kullanılan kelimeler bile bölgesel farklılık gösterir. Hatta olaylara karşı kullandığımız tepki sözcükleri de oldukça çeşitlidir.

Bu parçada vurgulanmak istenen düşünce aşağıdakilerden hangisidir?

- A) Dil, yaşanan çevrenin kültür yapısına göre şekillenmektedir.
B) Dil, kültürün en önemli taşıyıcısıdır.
C) Dil zamanla değişime uğrayan bir yapıya sahiptir.
D) Kültür, bölgeden bölgeye değişiklik göstermektedir.

11. Az yanımda kal, çocukluğum, Temiz yürekli, uysal çocukluğum... Ah, ümit dolu gençliğim.

Bu dizelerde hâkim olan tema aşağıdakilerden hangisidir?

- A) Yalnızlık B) Özlem
C) Karamsarlık D) Ölüm

12. On iki yaşında var mıydı? Şakaklarından, ensesinden sarkan düz, parlak, koyu siyah saçlar altında sarı, süzgül, küçük yüzüne; genişlememiş kemikleri üstünde donuk esmer rengiyle zayıf iz düşümleri görülen kaslarına; yırtık gömleğiyle paçaları parçalanmış pantolonunun içinde ince bir değnek gibi duran narin vücuduna bakılsa belki daha küçük zannedilirdi.

Bu parçada kullanılan anlatım biçimi aşağıdakilerden hangisidir?

- A) Açıklama B) Tartışma
C) Betimleme D) Öyküleme

3. OTURUM

13. "Nasıl olur da terbiye işinden bütün millet sorumlu kılınabilir?" itirazında bulunanlar var. Buna cevap vermek için bir misal vereyim: Sabahları tramvaya, vapura, otobüse ve dolmuşa binerken hepimizin gördüğü izdiham manzaraları içinde okul çocuklarıyla büyük adamlar arasındaki münasebete bir bakalım. Küçük bir çocuk, kendisini itip kakan hatta mini mini ayaklarına basıp geçerek taşıta atlayan ağabeylerini, ablalarını, amcalarını, hatta dedelerini görürse kendisinden büyüklere muhabbet ve hürmet besleyebilir mi?

Bu parçada ağır basan anlatım biçimi aşağıdakilerden hangisidir?

- A) Açıklama B) Tartışma
C) Öyküleme D) Betimleme

14. Aşağıdaki cümlelerin hangisinde nesnel bir anlatım vardır?

- A) Kitabın hazırlıklarına 2000'li yılların başında başlamış.
B) Bu çalışmayı mükemmel bir antoloji olarak görüyorum.
C) Eserlerinde konuşma dilini başarıyla kullanmış.
D) Şiir her okuyanı büyüleyecek bir güzellikteydi.

15. Aşağıdakilerden hangisi dolaylı anlatım cümlesidir?

- A) Sağlıklı yaşamının düzenli beslenmeye bağlı olduğunu söyledi.
B) Her işin başı "Ben başaracağım." diye yola çıkmaktır.
C) Birçok usta hikâyeciye kitabında yer vermişti.
D) Sert bakışlarıyla insanı ürkten bir havası vardı.

16. "Genç kıza bir şeyler soruyordu." cümlesinde eksik olan anlatım özelliği aşağıdakilerden hangisidir?

- A) Yalınlık B) Açıklık
C) Duruluk D) Akıcılık

17. Büyük meydanın iki adım berisinde, evimin arka bahçesinde tek başıma oturuyordum. Ağaçların yaprakları arasına yerleşmiş, rüzgârla dans eden kuşların keskin seslerini saymazsam tıpkı gökyüzü gibi pürüzsüz bir sabah yaşıyordum. Akşamın gelmesini sabırsızlıkla bekliyordum.

Bu parçanın anlatımı için aşağıdakilerden hangisi söylenemez?

- A) Öyküleyici bir anlatım tercih edilmiştir.
B) Üçüncü kişi anlatımı kullanılmıştır.
C) Betimleyici öğeler vardır.
D) İşitme ve görme duyusuna ait ayrıntılara yer verilmiştir.

18. Ünlü sanatçı; güzel konular seçmiş, kısa cümlelerle okuyucuyu etkilemeye, yaptığı uzun tasvirlerle okuyucunun hayal gücünü harekete geçirmeye çalışmış ancak yazarın anlatımında eksik olan bir şey var: Dili başka yazarları hatırlatıyor. Bunları daha önce okumuş gibi bir hisse kapılıyorsunuz.

Bu parçada sözü edilen sanatçının anlatımındaki eksiklik aşağıdakilerden hangisidir?

- A) Doğallık B) Duruluk
C) Özgünlük D) Yalınlık

19. Aşağıdaki cümlelerin hangisinde gereksiz sözcük kullanımından kaynaklanan bir anlatım bozukluğu vardır?

- A) Ayakkabının ücretini ödedik.
B) İki yıl bu şehirde öğretim gördüm.
C) Buraya sık sık gelir, görüşürdük.
D) Dün kötü bir kâbus gördüm.

20. Aşağıdakilerden hangisi bir paragrafın giriş cümlesi olmaya en uygundur?

- A) Sanatsallığı ölmüş bir eser de sanat eseri olmaktan çıkar.
B) Ömer Seyfettin'in hayat dolu hikâyeleri bu özelliği örnekler.
C) Klasik eserlerin de en önemli özelliklerinden biri zamana dayanabilmeleridir.
D) Sanatçılara düşen görev, içinde buldukları toplumu eserleriyle aydınlatmaktır.

(405) DİL VE ANLATIM – 5

1. Aşağıdaki eşleştirmelerin hangisinde yanlışlık yapılmıştır?

- A) Makale – Gazete çevresinde gelişen öğretici metin
B) Günlük – Kişisel hayatı konu alan öğretici metin
C) Hikâye – Anlatmaya bağlı edebî metin
D) Biyografi – Göstermeye bağlı edebî metin

2. Aşağıdakilerden hangisi sanat metinlerinin özelliklerinden biri değildir?

- A) Kişi, her okuduğunda farklı yorumlar çıkarabilir.
B) Amaç duyguyu hissettirmektir.
C) Dil, göndergesel işlevde kullanılır.
D) Yazar, okuyucuyu kendi kurmaca dünyasına çekmek ister.

3. Aşağıdakilerden hangisi gazete çevresinde gelişen metinlerdendir?

- A) Deneme B) Mesnevi
C) Trajedi D) Otobiyografi

4. - - - ; çevresi izleyicilerle çevrili bir alan içinde oynanan, yazılı metne dayanmayan, içinde müzik, raks ve şarkı da bulunan doğaçlama bir oyundur. Oyunun oynandığı alana palanga denir.

Bu parçada boş bırakılan yere aşağıdakilerden hangisi getirilmelidir?

- A) Karagöz B) Komedi
C) Orta oyunu D) Meddah

5. Gurbetin cemresi düştü içime
Karardı yine gökler.
Yalnızım bu şehirde yapayalnızım...
Ne ben kimseyi beklerim.
Ne kimse beni bekler.

Bu dizelerle ilgili aşağıdakilerden hangisi söylenemez?

- A) Dil, şiirsel işlevde kullanılmıştır.
B) Öznellik söz konusudur.
C) Coşku ve heyecanı dile getiren edebî metindir.
D) Bütün sözcükler gerçek anlamıyla kullanılmıştır.

3. OTURUM

6. Aşağıdakilerden hangisi öğretici bir metinden alınmış olamaz?

- A) Millî Müze, dinazorları ile ilgi çekiyor. Gobi Çölü'nün, tarih öncesinde yüzlerce çeşit dev yaratığın ve dinazorun ana yurdu olduğu biliniyor.
- B) Adalet, insan olma yolculuğumuzda sahip olmamız gereken bir erdemdir. Dilimizdeki "adalet" sözcüğü Arapça "ayn, dal, lam" ile yazılan "adl" kökünden gelir.
- C) Yazar, yalnız görüneni, deneyseli, hesaplanabilir değil; bilinmezi, geleceği, olabileceği de vermeyi amaçlar. Şimdinin ötelere uzanan bir sezgisi, dili, kavrayışı vardır yazarın.
- D) Aşağısı baş döndürecek kadar derin bir uçurumdur. Yeni bitmiş bir kâbus gecesinden kalma korkunç rüyaları andıran parça parça sisler, birbirine karışmış camlarla kayaları örtüyordu.

7. Devlet dairelerinin kendi aralarında veya kişilerle devlet daireleri arasında yazılan mektuplara - - - - denir.

Bu cümlede boş bırakılan yere aşağıdakilerden hangisi getirilmelidir?

- A) özel mektup
- B) edebî mektup
- C) resmî mektup
- D) iş mektubu

8. Aşağıdakilerden hangisi mektup yazarken dikkat edilecek hususlardan biri değildir?

- A) Süslü ve sanatlı bir anlatıma başvurulur.
- B) Uygun bir hitapla başlanır.
- C) Kâğıdın sağ üst köşesine yer ve tarih yazılır.
- D) Son bölümde selam ve saygı sözlerine yer verilir.

9. Londra, 3 Ekim 1977

Yakında İstanbul'a dönüyorum. Bugün Dr. Morgan'a gideceğim. İçim karışık düşüncelerle bulanık. Yalnız, vaktim ve gücüm olursa "Eylembilim" ve "Geleceği Elinden Alınan Adam" adlı hikâyelerimi bitirmek istiyorum. İkisinin de ana hatlarını bu deftere yazmıştım ama yazacak kuvveti ve düşünme çabasını kendimde bulamıyorum.

Bu metinle ilgili olarak aşağıdakilerden hangisi doğrudur?

- A) Gazete çevresinde gelişen metin – sohbet
- B) Gazete çevresinde gelişen metin – deneme
- C) Kişisel hayatı konu alan metin – biyografi
- D) Kişisel hayatı konu alan metin – günlük

10. Aşağıdaki cümlelerin hangisinde bilgi yanlışı vardır?

- A) Şuara tezkireleri, siyer, vakayiname, gazavatname gibi eserler anı türüne özgü nitelikler taşır.
- B) Batılı anlamda anı, Tanzimat ile beraber edebiyatımıza girmişti.
- C) Anı; makale, sohbet, deneme türleri gibi gazete çevresinde gelişir.
- D) Anı yazarları yaşanmış olayları konu aldığı için anılar tarihe ışık tutar.

11. Bir kimsenin hayatını, kişiliğini, eserlerini geniş olarak inceleyen, bunları roman tarzında işleyen edebî yazılara - - - - denir.

Bu cümlede boş bırakılan yere aşağıdakilerden hangisi getirilmelidir?

- A) tezkire
- B) monografi
- C) otobiyografi
- D) anı

12. Taşkent'i yakından tanımak için akşama doğru sokağa çıkabildik. Günlerden pazardı. Dışarıda hava güzeldi. Büyük ve güzel parklardan geçtik. Büyük ve güzel fiskiyeli havuzlar ruhumuzu sonsuzluk türküsüyle kucakladı. Geniş kaldırımlı caddelerde yer yer açılıp saçılan zarif çiçeklikler yüreğimizi sevdalandırdı.

Bu parça aşağıdaki yazı türlerinin hangisinde alınmıştır?

- A) Eleştiri
- B) Gezi yazısı
- C) Biyografi
- D) Deneme

13. Aşağıdakilerden hangisi sohbet türünün özelliklerinden biri değildir?

- A) Savunulan düşünceleri kanıtlama zorunluluğu vardır.
- B) Anlatım samimi, içten ve anlaşılır olmalıdır.
- C) Atasözü ve deyimlerden, nükteli sözlerden yararlanır.
- D) Bir kimse ile konuşur gibi yazılır.

14. Aşağıdaki cümlelerin hangisinde bilgi yanlışı vardır?

- A) İlk resmî gazete Takvim-i Vakayi II. Mahmut Dönemi'nde çıkarılmıştır.
- B) Dünya haberlerini toplayıp her yana bildiren kurumların verdiği haberlere özel haber denir.
- C) Haber yazılarında anlatılanlar doğru olmalı ve ilgi çekici şekilde anlatılmalıdır.
- D) Gazete ve televizyonlarda haberleri toplayan, ileten kişilere muhabir denir.

15. - Gazete ve dergilerde yayımlanır.
- Güncel, siyasal, toplumsal sorunlarla ilgili yazılardır.
- Okuyanı ikna etme amacı yoktur.
- Kişisel düşüncelere yer verilir.

Özellikleri verilen yazı türü aşağıdakilerden hangisidir?

- A) Fıkra
- B) Makale
- C) Eleştiri
- D) Biyografi

3. OTURUM

16. Kendimizi kaptırmamaya çalıştığımız çocukça, yakışsız bir alışkanlığımız vardır: Dertlerimizle dostlarımızı acındırmak ve kendimize "Ah, vah!" dedirtmek. Başımıza gelenleri büyütür, şişirir, karşımızdakini ağlatmak isteriz neredeyse. Başkalarını kendi dertleri karşısında soğukkanlı gördük mü överiz ama soğukkanlılığı bizim dertlerimize karşı gösterdiler mi darılır ve kızarız.

Bu parça aşağıdaki yazı türlerinin hangisinden alınmıştır?

- A) Anı B) Biyografi
C) Makale D) Deneme

17. Dünya edebiyatında deneme türünün ilk örneklerini veren - - - - olmuştur. Büyük bir kültür birikimine sahip olan yazar, çeşitli konularda görüşlerini anlatmış, bunu yaparken kendisini, dolayısıyla insanı anlatmıştır.

Bu parçada boş bırakılan yere aşağıdakilerden hangisi getirilmelidir?

- A) Victor Hugo B) Descartes
C) Montaigne D) Bacon

18. - - - - yazarı ele aldığı konuyu ispatlamak, en ince ayrıntısına kadar araştırmak ve incelemek zorundadır. İleri sürülen görüş ve düşüncelerin sağlam kaynaklara dayandırılma zorunluluğu vardır.

Bu parçada boş bırakılan yere aşağıdakilerden hangisi getirilmelidir?

- A) Sohbet B) Makale
C) Deneme D) Fıkra

19. Aşağıdakilerden hangisi Türk edebiyatında ilk makale kabul edilir?

- A) Tercüman-ı Ahval Mukaddimesi
B) Zeytinadağı
C) Tahrib-i Harabat
D) Günlerin Götürdüğü

20. Aşağıdakilerden hangisi eleştiri yazarında bulunması gereken özelliklerden biri değildir?

- A) Geçmişin ve çağının sanat olaylarını iyi bilmesi
B) Objektiflikten uzak olması
C) Yıkıcı değil yapıcı olması
D) Geniş bir bilgi ve kültür birikimine sahip olması

(406) DİL VE ANLATIM – 6

1. Yazarın bir konu, eşya ya da yerle ilgili yaptığı incelemeleri değişik boyutlarıyla ele alıp kendi görüşlerini de katarak yazdığı gazete ve dergi yazılarına - - - - denir.

Bu cümlede boş bırakılan yere aşağıdakilerden hangisi getirilmelidir?

- A) röportaj B) söylev
C) mülakat D) deneme

2. Mülakatla ilgili aşağıdakilerden hangisi söylenemez?

- A) Sorular herkesin anlayabileceği şekilde açık ve net olmalıdır.
B) Dil, göndergesel işlevde ve alıcıcıyı harekete geçirme işlevinde kullanılır.
C) Mülakat yapılacak kişiden randevu alınmalıdır.
D) Sorulara verilen cevaplar değiştirilerek aktarılmalıdır.

3. Aşağıdakilerden hangisi söylev çeşitlerinden biri değildir?

- A) Askerî söylev
B) İktisadi söylev
C) Coğrafi söylev
D) Siyasi söylev

4. - Geleneksel sanatlarımızdan yararlanarak sinemada bir açılım sağlamak nasıl bir iştir?
- Geleneğin iki metot ile yararlanmak mümkün. Birincisi "kes yapıştır metodu". Geleneğin kimi unsurlarını alır, filminde kullanırsın. Örneğin İttri'yle ilgili bir film yapacaksan İttri'nin müziğini kullanırsın. İkinci yöntem, geleneğin bazı yapılarını yorumlayıp onlardan metaforlar üretmektir. İkinci yöntemde, mevzuya derinlemesine hâkim olmaya çalışarak bir tazeleme çabası ortaya koyarsunuz.

Bu metnin türü aşağıdakilerden hangisidir?

- A) Mülakat B) Söyleşi
C) Deneme D) Söylev

5. Aşağıdakilerden hangisi röportaj yazarının dikkat etmesi gereken kurallardan biri değildir?

- A) Kişisel düşüncelerine hiçbir zaman yer vermemesi
B) Gördükleri ve duyduklarıyla yetinmemesi
C) Röportajı okuyucunun dikkatini çekecek şekilde hazırlaması
D) Toplumun ilgilendiren konulara yer vermesi

6. Aşağıdakilerden hangisinin gelişiminde gazete etkili olmamıştır?

- A) Deneme
B) Söylev
C) Haber yazısı
D) Fıkra

7. Aşağıdakilerden hangisi röportaj türünde yazılmış bir eser değildir?

- A) Çukurova Yana Yana (Yaşar Kemal)
B) Edebiyatçılarımız Konuşuyor (Yaşar Nabi Nayır)
C) Şair Evlenmesi (Şinasi)
D) Telsiz Duvaksız Anadolu (Necmi Onur)

3. OTURUM

8. Aşağıdakilerden hangisi "söylev" in diğer adıdır?

- A) Görüşme B) Röportaj
C) Nutuk D) Mülakat

9. Mülakat ile - - - - birbirine karıştırılır. Oysa - - - - hazırlayan kişi gördükleri ve duyduklarıyla yetinmez.

Bu parçada boş bırakılan yerlere aşağıdakilerden hangisi getirilmelidir?

- A) röportaj B) söylev
C) tiyatro D) sohbet

10. Aşağıdakilerin hangisinde röportaj türü ile ilgili bir bilgi yanlış vardır?

- A) Okuyucunun ilgisini çekecek ve onları düşündürecek biçimde düzenlenir.
B) Amacı, konuyu çarpıtmadan belgesel olarak okuyucuya sunmaktır.
C) Bir topluluğa belli bir fikri aşlamak için yapılan etkili ve inandırıcı konuşmalardır.
D) Tek bir yazı olabileceği gibi aynı konuda yazı dizisi olarak da hazırlanabilir.

11. Efendiler! Tarih, milletlerin yükselme ve düşme sebeplerini ararken birçok siyasi, askerî, sosyal neden bulmakta ve saymaktadır. Şüphe yok, bütün bu nedenler sosyal olaylarda etkilidir. Fakat bir milletin doğrudan doğruya hayatıyla, yükselmesiyle, düşmesiyle ilgili ve ilişkili olan milletin ekonomisidir.

Bu metnin türü aşağıdakilerden hangisidir?

- A) Mülakat B) Söylev
C) Röportaj D) Fıkra

12. Röportaj, gazete çevresinde gelişen öğretici metinlerden - - - - özelliklerini taşır. Çünkü röportajın da dayandığı sağlam bir düşünce ve tez vardır.

Bu parçada boş bırakılan yere aşağıdakilerden hangisi getirilmelidir?

- A) gezi yazısının
B) makalenin
C) biyografinin
D) fıkranın

13. I. Röportaj araştırma
II. Söylev hitap sözleri
III. Mülakat soru-cevap
IV. Hatip eleştirmen

Numaralanmış terimlerden hangisi karşıdakiyle ilişkilendirilemez?

- A) I. B) II. C) III. D) IV.

14. Söylev türü Türk edebiyatında - - - - sonra görülmeye başlanmıştır.

Bu cümlede boş bırakılan yere aşağıdakilerden hangisi getirilmelidir?

- A) Tanzimat Dönemi'nden
B) II. Meşrutiyet'ten
C) Cumhuriyet Dönemi'nden
D) Lale Devri'nden

15. Bilimsel toplantılarda ilim ve fen insanların yaptıkları toplantılara - - - - denir.

Bu cümlede boş bırakılan yere aşağıdakilerden hangisi getirilmelidir?

- A) dinsel söylev
B) akademik söylev
C) siyasi söylev
D) hukuksal söylev

16. Röportajlarda aşağıdaki anlatım türlerinden hangisinin kullanımı diğerlerinden daha azdır?

- A) Öğretici anlatım
B) Açıklayıcı anlatım
C) Betimleyici anlatım
D) Emredici anlatım

17. Cam, eskiden beri ticaretin geniş insan kitlelerinden esirgediği parıltıyı onlara verendir. Tarihin süsüdür cam. Tarihiçilerin erken dönem diye niteledikleri zaman kesitinde cam; doğada zor bulunan yeşim, firuze, zümrüt, kehribar gibi taşlara alternatif olarak üretilmiştir. Antik camların çoğunlukla şeffaf değil, renkli olmasının hatta gereğinden fazla parlak renklerde üretilmesinin nedeni budur.

Bu metnin türü aşağıdakilerden hangisidir?

- A) Mektup B) Mülakat
C) Söylev D) Röportaj

18. Aşağıdaki türlerin hangisinde özellikle dilin alıcıyı harekete geçirme işlevi kullanılır?

- A) Söylev B) Makale
C) Röportaj D) Deneme

19. Ünlü bir ressamı konu alan röportajın türü aşağıdakilerden hangisidir?

- A) Bir yeri konu alan
B) Bir eşyayı konu alan
C) Bir insanı konu alan
D) Bir inaniş konu alan

20. Aşağıdakilerden hangisi söylevcinin dikkat etmesi gereken kurallardan biri değildir?

- A) Konuşmasında yersiz ve abartılı vurgulardan kaçınmalıdır.
B) Kelimeleri yerli yerinde kullanmalıdır.
C) Ele aldığı konuyu bütün yönleriyle bilmelidir.
D) Konuşurken sesini aşırı yükseltmelidir.

3. OTURUM

(413) TÜRK EDEBİYATI – 3

1. Edebiyat Öğretmeni Hatice Hanım'ın "Türkiye'de ilk defa tarih ve edebiyat tarihi incelemelerinde bilimsel yöntemi ortaya koyan bilim insanı kimdir?" sorusuna öğrencilerden bazıları şu cevapları vermiştir:
Ali: Şemsettin Sami
Ayşe: Ziya Gökalp
Mustafa: M. Fuat Köprülü
Bilge: Ahmet Hamdi Tanpınar

Bu öğrencilerden hangisi Edebiyat Öğretmeni Hatice Hanım'ın sorusuna doğru cevap vermiştir?

- A) Ali B) Ayşe
C) Mustafa D) Bilge

2. Doğu ülkelerine özgü bir sanat olan gölge oyununun ilk olarak - - - - çıktığı kabul görüyor.

Bu cümlede boş bırakılan yere aşağıdakilerden hangisi getirilmelidir?

- A) Hindistan'dan
B) Japonya'dan
C) İran'dan
D) Çin'den

3. I. şiir

Ala gözlerini sevdiğim dilber
Şu gelip geçtiğin yollar öğünsün
Kadir Mevlâm seni öğmüş yaratmış
Kismetini olduğun kullar öğünsün

II. şiir

Severiz gördüğümüz âfeti dilber
diyerek
Başlarınız nâle vü feryâda sitemgar
diyerek

Bu iki şiirin karşılaştırmasıyla ilgili aşağıdakilerden hangisi yanlıştır?

- A) I. şiir halk, II. şiir divan şiiri geleceğiyle kaleme alınmıştır.
B) Her iki şiir de satirik şiir örneğidir.
C) I. şiirde dördlük, II. şiirde beyit nazım birimi kullanılmıştır.
D) İki şiirde de "aşk" teması işlenmiştir.

4. Türkler aşağıdaki alfabelerin hangisini kullanmamıştır?

- A) Latin B) Çin
C) Göktürk D) Arap

5. İslamiyet Öncesi Sözlü Edebiyat Dönemi'nde ürünler genellikle dinî törenlerde söylenir, bu ürünlere - - - - adı verilen bir müzik aleti eşlik ederdi.

Bu cümlede boş bırakılan yere aşağıdakilerden hangisi getirilmelidir?

- A) bağlama B) gitar
C) ud D) kopuz

6. Sözlü edebiyat ürünlerinden olan "koşuk"la ilgili aşağıda verilen bilgilerden hangisi yanlıştır?

- A) Aruz ölçüsünün genellikle 4+3'lü kalıbıyla söylenir.
B) Aşk, tabiat, yiğitlik konuları işlenir.
C) Halk edebiyatındaki koşmanın ilk biçimidir.
D) Dördlük nazım birimi kullanılır.

7. - Biş ernek tüz ermes.
(Beş parmak düz olmaz.)
- Tegirmende toğmuş sıçgan kök kökreginge korkmas.
(Değirmende doğmuş sıçgan gök gürültüsünden korkmaz.)
- Aç ne yimes tok ne times.
(Aç ne yemez, tok ne demez.)

Bu cümleler İslamiyet Öncesi Dönem'de aşağıdaki kavramlardan hangisiyle karşılanır?

- A) Sagu B) Destan
C) Koşuk D) Sav

8. Aşağıdakilerden hangisi Göktürlere ait bir destandır?

- A) Bozkurt B) Türeyiş
C) Şu D) Attila

9. Türklerin en eski "sav" örnekleri aşağıdaki eserlerin hangisinde bulunmaktadır?

- A) Divanü Lügati't Türk
B) Göktürk Abideleri
C) Kutadgu Bilig
D) Atabet'ül Hakayık

10. Alp Er Tunga öldü mü?
Geçici dünya kaldı mı?
Felek öcünü aldı mı?
Şimdi yürek yırtılır

Bu dizeler için aşağıdakilerden hangisi söylenemez?

- A) İslamiyet Öncesi Dönem ürünlerinden saguya örnektir.
B) Öğretici yönü ağır basmaktadır.
C) Sevilen bir kimsenin ölümüne duyulan üzüntüyü ifade etmiştir.
D) Hece ölçüsü ile dördlük hâlinde oluşturulmuştur.

11. Göktürk Abideleri'ni ilk defa okuyan bilim insanı aşağıdakilerden hangisidir?

- A) Nicholas Poppe
B) Reşit Rahmeti Arat
C) Wilhelm Thomsen
D) Şemsettin Sami

12. Türk edebiyatının önemli eserlerinden olan Kalyanamkara ve Papamkara masalı - - - - Dönemi'nde kaleme alınmıştır. Eserin aslı Sanskritçedir. Dinsel masal niteliği taşıyan metinde asıl anlatılmak istenen Budizm'dir.

Bu parçada boş bırakılan yere aşağıdakilerden hangisi getirilmelidir?

- A) Göktürkler B) Hunlar
C) Sakalar D) Uygurlar

13. I. Çin kaynakları dışında yazıtlardan ilk söz eden kaynak Tarih-i Cihangüşa'dır.
II. Taşların en önemlileri Oğuz Kağan, Bilge Kağan ve Attila adına dikilenlerdir.
III. Yazıtlar, biçim bakımından makale şeklinde yazılmıştır.
IV. Bu taşlar Türk edebiyatının ilk yazılı eseridir.

Yukarıda numaralanmış cümlelerin hangilerinde Göktürk Abideleri ile ilgili yanlış bilgi verilmiştir?

- A) I. ve II. B) I. ve III.
C) II. ve III. D) III. ve IV.

3. OTURUM

14. Destan kahramanının MÖ 4. yüzyılda yaşamış bir Saka hükümdarı olduğu sanılmaktadır. Destanda Oğuz boylarının ve Türkmenlerin kaynağı anlatıldıktan sonra, İskender'in Asya seferinde ordusunun bir gece baskınıyla Türklere yenildiği anlatılmaktadır.

Bu parçada hakkında bilgi verilen destan aşağıdakilerden hangisidir?

- A) Türeyiş Destanı
B) Oğuz Kağan Destanı
C) Yaradılış Destanı
D) Şu Destanı

15. Aşağıdakilerden hangisi İslamiyet Öncesi Sözlü Dönem edebî ürünlerinden değildir?

- A) Koşuk
B) Mesnevi
C) Sagu
D) Destan

16. Aşağıdaki dönemlerden hangisi İslami Dönem Türk Edebiyatı içinde değerlendirilemez?

- A) Klasik Türk edebiyatı
B) Edebiyat-ı Cedide
C) Âşık tarzı halk edebiyatı
D) Dinî – tasavvufi halk edebiyatı

17. I. Attila Destanı – Hun Türkleri
II. Ergenekon Destanı – Göktürkler
III. Göç Destanı – Saka Türkleri
IV. Alp Er Tunga Destanı – Uygurlar

Yukarıda numaralanmış destan – devlet eşleştirmelerinden hangileri yanlıştır?

- A) I. ve II.
B) II. ve III.
C) II. ve IV.
D) III. ve IV.

18. Destan Dönemi Türk Edebiyatı ile ilgili aşağıdakilerden hangisi yanlıştır?

- A) Bu dönem sözlü ve yazılı edebiyat olmak üzere ikiye ayrılır.
B) Yabancı etkilere açık olan dönemin edebî dili ağır ve sanatlıdır.
C) Sanatçılara baksı, şaman, oyun, ozan gibi isimler verilmiştir.
D) Yazılı dönemde elimizde Göktürk ve Uygurlardan kalan metinler vardır.

19. Orhun Yazıtları, Türkiye'de ilk kez Arap harfleriyle - - - - tarafından yayımlanmıştır.

Bu cümlede boş bırakılan yere aşağıdakilerden hangisi getirilmelidir?

- A) Hüseyin Namık Orkun
B) Necib Asım
C) Talat Tekin
D) Muharrem Ergin

20. Aşağıdakilerden hangisi İslamiyet'ten sonraki Türk destanlarından biri değildir?

- A) Manas Destanı
B) Köroğlu Destanı
C) Yaradılış Destanı
D) Timur Destanı

(416) TÜRK EDEBİYATI – 6

1. Yeniye savunan Rezaizade M. Ekrem, Servet-i Fünun'u bir edebiyat dergisi hâline getirebilmek için Galatasaray Lisesinden öğrencisi olan - - - - derginin yazı işleri müdürlüğüne getirir.

Bu cümlede boş bırakılan yere aşağıdakilerden hangisi getirilmelidir?

- A) Cenap Şahabettin'i
B) Hüseyin Cahit Yalçın'ı
C) Tevfik Fikret'i
D) Ahmet Hikmet Müftüoğlu'nu

2. Servetifünun neslinin en önemli sanatçılarından. "Avrupa Mektupları" adlı eserinde gezi hatıralarını toplamıştır. Şiirlerinde bireysel konuları tercih eden şairin tek şiir kitabı "Tamât"tır.

Bu parçada kısaca tanıtılan sanatçı aşağıdakilerden hangisidir?

- A) Tevfik Fikret
B) Cenap Şahabettin
C) Süleyman Nazif
D) Ahmet Hikmet Müftüoğlu

3. Aşağıdakilerden hangisi Servetifünun edebiyatı için doğru değildir?

- A) "Kulak için kafiye" anlayışı benimsenmiştir.
B) Ölçü olarak aruz kullanılmıştır.
C) Toplumsal temalara değinilmemiştir.
D) Divan edebiyatı nazım biçimleri kullanılmaya devam edilmiştir.

4. Servetifünun edebiyatında şiirlerde - - - - ve - - - -; hikâye ve romanlarda - - - - akımları etkili olmuştur.

Bu cümlede boş bırakılan yerlere sırasıyla aşağıdakilerden hangisi getirilmelidir?

- A) klasisizm – parnasizm – natüralizm
B) sembolizm – sürrealizm – romantizm
C) parnasizm – romantizm – klasisizm
D) sembolizm – parnasizm – realizm

5. I. Nazmı nesirden olabildiğince uzaklaştırdı.
II. Türkçeyi aruza ustalıkla uyguladı.
III. Batı edebiyatlarında görülen sone, terza rima gibi nazım şekillerini kullandı.
IV. Eserlerinde toplumsal konuları hiç işlemedi.

Tevfik Fikret'le ilgili yukarıda numaralanmış bilgilerden hangileri yanlıştır?

- A) I. ve II.
B) I. ve IV.
C) II. ve III.
D) III. ve IV.

6. Aşağıdaki eserlerden hangisi mensur şiir türünde yazılmıştır?

- A) Siyah İnciler
B) Haluk'un Defteri
C) Göl Saatleri
D) Tarih-i Kadim

3. OTURUM

7. - 19. yüzyılın ikinci yarısında romantizme tepki olarak doğmuştur.
- Eserlerde duygular, okuyucuda gerçeklik duygusu oluşturacak şekilde anlatılır.
 - Bu akımın dünya edebiyatındaki başlıca temsilcileri Balzac, Stendhal, Dostoyevski, Çehov'dur.

Bu özellikler aşağıdaki edebî akımlardan hangisine aittir?

- A) Realizm B) Klasisizm
C) Sembolizm D) Parnasizm

8. **Aşağıdaki eserlerden hangisi Halit Ziya Uşaklıgil'e ait değildir?**

- A) Aşk-ı Memnu
B) Mai ve Siyah
C) Ruh-ı Kemal
D) Kırk Yıl

9. Bu eserde yazar, olaylardan çok, kişilerin olaylara karşı tepkileri üzerinde durmuştur. Kişilerin olaylar karşısındaki ruhsal durumları ayrıntılarıyla işlenmiştir. Eserde; sonbahar, havanın durumu, Boğaziçi'nin doğal güzellikleri, aşk ve müzik gibi konular Suad, Süreyya ve Necip arasındaki ilişki ile ele alınır. Suad ile Necip'in arasındaki soyut aşk anlayışı somut bir yangınla bitirilir.

Bu parçada tanıtılan Servetifünun Dönemi romanı aşağıdakilerden hangisidir?

- A) Aşk-ı Memnu
B) Mai ve Siyah
C) Son Emel
D) Eylül

10. **Aşağıdakilerden hangisi Servetifünun Dönemi sanatçılarından biri değildir?**

- A) Mehmet Rauf
B) Yakup Kadri Karaosmanoğlu
C) Cenap Şahabettin
D) Hüseyin Cahit Yalçın

11. Servet-i Fünun dergisi 1901 yılında - - - - tarafından yapılan "Edebiyat ve Hukuk" adlı çevirinin yayımlanmasıyla kapatılmış ve Edebiyat-ı Cedide topluluğu dağılmıştır.

Bu cümlede boş bırakılan yere aşağıdakilerden hangisi getirilmelidir?

- A) Tefik Fikret
B) Cenap Şahabettin
C) Hüseyin Cahit Yalçın
D) Mehmet Rauf

12. **Aşağıdakilerden hangisi Fecriati topluluğunun edebiyatta gerçekleştirmek istediği amaçlardan biri değildir?**

- A) Genç yetenekleri bir araya getirmek ve toplumu aydınlatmak
B) Öz Türkçe anlayışını başlatarak dili sadeleştirmek
C) Üyelerin eserlerinden oluşan bir kütüphane kurmak
D) Toplantılar düzenleyip halkı edebiyat ve sanat konularında bilgilendirmek

13. - "Adalar, Kamer ve Zühre şairi" olarak şöhret kazandı.
- Tiyatro ile yakından ilgilenmiştir.
- Eserlerinden bazıları şunlardır: Sisler ve Hisler, Kırklar ve Denizler, Kösem Sultan...

Özellikleri verilen sanatçı aşağıdakilerden hangisidir?

- A) Tahsin Nahid
B) Ahmet Haşım
C) Emin Bülenç
D) Faik Ali

14. **Fecriati topluluğu ile ilgili aşağıdakilerden hangisi yanlıştır?**

- A) Edebiyatımızda bildiri yayımlayan ilk topluluk olarak kabul edilir.
B) Edebiyatı araç değil amaç olarak gördüler.
C) Şiirde güzellik kavramını ön plana çıkardılar.
D) Sade, samimi, anlaşılır bir dille eserler verdiler.

15. **Aşağıdakilerden hangisi Millî Edebiyat Dönemi'nde Türkçülük akımının kültür ve edebiyat alanındaki yayın organlarından biri değildir?**

- A) Türk Derneği
B) Türk Yurdu
C) Varlık
D) Türk Ocağı

16. I. Türkçülük adı verilen akımı düzenleyip bir sisteme bağladı.
II. Aruz ölçüsünü savundu ve kullandı.
III. Halk masallarından, Türk mitolojisinden yararlandı.
IV. Ağır, sanatlı ve süslü bir dille yazma fikrini eserlerinde uyguladı.

Yukarıda numaralanmış cümlelerin hangilerinde Ziya Gökalp'le ilgili yanlış bilgi verilmiştir?

- A) I. ve II. B) II. ve III.
C) II. ve IV. D) III. ve IV.

17. "Toplum için sanat" anlayışını benimsedi. Bir şiirinde "Hayır, hayal ile yoktur benim alışverişim / İnan her ne demişsem görüp de söylemişim" diyen şair, şiir anlayışını ortaya koymuştur. Nazmı nesre yaklaştıran şair tüm şiirlerini yedi bölümden oluşan "Safahat" adlı kitapta toplamıştır.

Bu parçada tanıtılan sanatçı aşağıdakilerden hangisidir?

- A) Mehmet Akif Ersoy
B) Ali Canip Yöntem
C) Ziya Gökalp
D) Mehmet Emin Yurdakul

18. Güzel dil Türkçe bize,
Başka dil gece bize
İstanbul konuşması
En saf, en ince bize

Bu dördümlük ile ilgili aşağıdakilerden hangisi söylenemez?

- A) Sade, anlaşılır bir dille yazılmıştır.
B) Didaktik şiirin özelliklerini taşımaktadır.
C) Millî Edebiyat Dönemi dil anlayışı dile getirilmiştir.
D) Edebî sanatlara, imge ve çağrışımlara sıkça yer verilmiştir.

3. OTURUM

19. - - - - edebiyat tarihi ve tarih arařtırmacısıdır; Türk edebiyatını dönemlere ayıran, bilimsel yöntemlerle inceleyen ilk arařtırmacıdır.

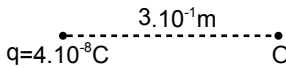
Bu cümlede boş bırakılan yere ařağıdakilerden hangisi getirilmelidir?

- A) Ziya Gökalp
B) Fuat Köprülü
C) Yakup Kadri Karaosmanođlu
D) Halide Edip Adivar

20. Ařağıdaki eser – sanatçı eřleřtirmelerinden hangisi yanlıřtır?

- A) Handan – Refik Halit Karay
B) Çalıkuřu – Reřat Nuri Güntekin
C) Kiralık Konak – Yakup Kadri Karaosmanođlu
D) Falaka – Ömer Seyfettin

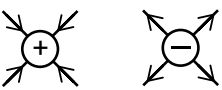
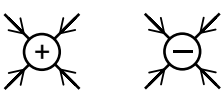


(426) FİZİK – 6

1. 

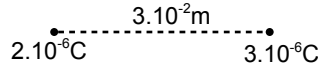
Yükü $4 \cdot 10^{-8}$ C olan noktasal bir cismin kendinden $3 \cdot 10^{-1}$ m uzağındaki O noktasında oluřturduđu elektrik alan řiddeti kaç N/C'dur? ($k=9 \cdot 10^9$ N.m²/C²)

- A) 4000 B) 3000
C) 2000 D) 1800

2. Pozitif ve negatif yüklerin elektrik alan çizgileri ařağıdakilerden hangisinde dođru çizilmiřtir? (Yükler birbirleriyle etkilememektedir.)

- A) 
B) 
C) 
D) 

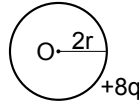
3. Yükleri $2 \cdot 10^{-6}$ C ve $3 \cdot 10^{-6}$ C olan noktasal iki cisim arasındaki uzaklık $3 \cdot 10^{-2}$ metredir.



Buna göre cisimler arasındaki elektriksel kuvvet kaç Newton'dur? ($k=9 \cdot 10^9$ Nm²/C²)

- A) 75 B) 60 C) 30 D) 14

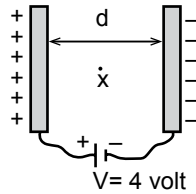
4. Yarıçapı 2r olan řekildeki kürenin yükü +8q dur.



Buna göre kürenin içindeki O noktasındaki elektrik alan kaç kq/r²'dir? (k =Coulomb sabiti)

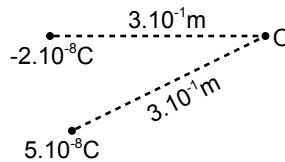
- A) 16 B) 8 C) 2 D) 0

5. řekildeki üretcin potansiyel farkı 4 Volt olup X noktasındaki elektrik alan řiddeti 40 N/C dur.



Buna göre levhalar arası uzaklık (d) kaç metredir?

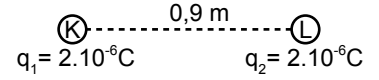
- A) 0,03 B) 0,02
C) 0,1 D) 1

6. 

Yükleri $5 \cdot 10^{-8}$ C ve $-2 \cdot 10^{-8}$ C olan noktasal cisimlerin O noktasında oluřturdukları toplam elektrik potansiyeli kaç Volttur? ($k=9 \cdot 10^9$ Nm²/C²)

- A) 1000 B) 900
C) 500 D) 125

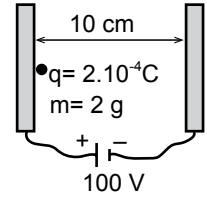
7. K ve L noktasal yükleri arasındaki uzaklık 0,9 m dir.



Buna göre yüklerin sahip olduđu elektriksel potansiyel enerji kaç Joule dür? ($k=9 \cdot 10^9$ Nm²/C²)

- A) $8 \cdot 10^{-2}$ B) $5 \cdot 10^{-2}$
C) $4 \cdot 10^{-2}$ D) 10^{-2}

8. Kütleli 2 gram, yükü $q=2 \cdot 10^{-4}$ C olan parçacık yerçekiminin önemsiz olduđu ortamda řekildeki gibi serbest bırakılıyor.



Buna göre parçacık karşı levhaya kaç m/s hızla çarpar?

- A) $3\sqrt{2}$ B) $2\sqrt{5}$
C) $4\sqrt{2}$ D) $\sqrt{3}$

9. Bir kenarı 3 cm olan kare řeklindeki iki iletken levha arasına dielektrik sabiti $40 \cdot 10^{-12}$ F/m olan yalıtkan madde konuluyor.

Levhalar arası uzaklık $4 \cdot 10^{-1}$ m olduđuna göre düzlem kondansatörün sığası kaç F'tır?

- A) $7 \cdot 10^{-14}$ B) $9 \cdot 10^{-14}$
C) $12 \cdot 10^{-14}$ D) $18 \cdot 10^{-14}$

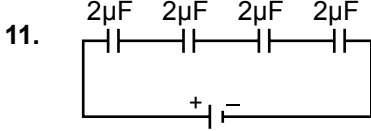
10. Kullanıldıkları yere ve ihtiyaç duyulan kapasiteye göre;

- I. Paralel levhali
II. Silindirik
III. Küresel

biçimlerinin hangilerinde sığa- lar üretilmiřtir?

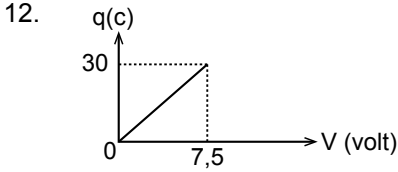
- A) I ve II B) II ve III
C) I ve III D) I, II ve III

3. OTURUM



Her birinin sığası $2\mu\text{F}$ olan özdeş sığaçlarla kurulu şekildeki devrede eşdeğer sığa kaç μF 'dir?

- A) $\frac{1}{2}$ B) $\frac{3}{2}$ C) $\frac{5}{2}$ D) 8



Yük potansiyel değişim grafiği şekildeki gibi olan sabit sığalı düzlem kondansatörün sığası kaç F tır?

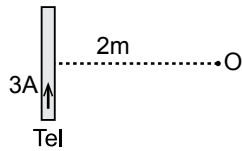
- A) 18 B) 15 C) 7 D) 4

13. Kondansatör ve iç direnci önemsiz üreteçle kurulmuş bir devrede kondansatörün sığası 2 F olup kondansatörün uçları arasındaki potansiyel fark 40 Volttur?

Buna göre kondansatörün toplam enerjisi kaç Joule dür?

- A) 1800 B) 1600
C) 1400 D) 500

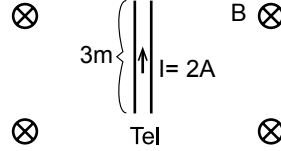
14. Şekildeki tel parçasından 3 A lik akım geçmektedir.



Buna göre telin 2 m uzağındaki O noktasında oluşan manyetik alan kaç Wb/m^2 dir? ($k=10^{-7} \text{ N/A}^2$)

- A) $7 \cdot 10^{-6}$ B) $4 \cdot 10^{-3}$
C) $3 \cdot 10^{-7}$ D) $2 \cdot 10^{-8}$

15. Uzunluğu 3 m olan bir telin üzerinden 2 A lik akım geçmektedir.



Tel şekildeki gibi B manyetik alanı içine konulduğunda cisme etki eden manyetik kuvvet 0,6 N olduğuna göre B manyetik alan şiddeti kaç Tesla'dır?

- A) 0,1 B) 0,2
C) 1 D) 2

16.

- A) 3 B) 6 C) 12 D) 24

Şiddeti 3B olan manyetik alan içine 4V hızıyla giren $-2q$ yüklü parçacığa etkiyen manyetik kuvvetin büyüklüğü kaç BqV 'dir?

- A) 3 B) 6 C) 12 D) 24

17. Aşağıda verilen;

- I. Weber
II. Joule
III. Farad

ifadelerinden hangileri manyetik akı birimi olarak kullanılabilir?

- A) Yalnız I B) Yalnız III
C) I ve II D) II ve III

18. Tek sarımlı halka içindeki manyetik akı 0,05 saniyede 5 Wb değişiyor.

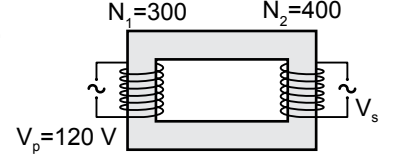
Buna göre halkada oluşan indüksiyon emk'sı kaç Volttur?

- A) 10 B) 50
C) 100 D) 1000

19. Bir alternatif akım devresinde indüktans direnci ile kapasitans direncinin birbirine eşit olması durumuna fizikte ne ad verilir?

- A) İndüksiyon B) Rezonans
C) Empedans D) Frekans

20.



Şekildeki ideal transformatörün primer devresine $V_p=120 \text{ V}$ gerilim uygulanıyor.

Buna göre devrenin sekonder gerilimi (V_s) kaç Volttur?

- A) 120 B) 150 C) 160 D) 200

(427) FİZİK – 7

1. 60°R kaç $^\circ\text{C}$ dir?

- A) 75 B) 80 C) 85 D) 90

2. Isı ve sıcaklıkla ilgili;

- I. Birbirlerinden farklı kavramlardır.
II. Termometre ile ölçülürler.
III. Enerji çeşididir.

yargılarından hangileri doğrudur?

- A) Yalnız I B) Yalnız II
C) I ve II D) II ve III

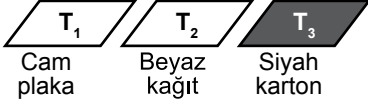
3. Isının bir ortamda yayılması;

- I. Konveksiyon
II. İletim
III. Işıma
yollarından hangileri ile olabilir?

- A) Yalnız I B) I ve II
C) II ve III D) I, II ve III

3. OTURUM

4. Aynı ortamda güneş alan bir yüzeye, alanları eşit büyüklükteki cam plaka, beyaz kâğıt ve siyah karton şekildeki gibi konulmuştur.



Cam plaka, beyaz kâğıt ve siyah kartonun belirli bir süre sonraki sıcaklıkları sırayla T_1 , T_2 ve T_3 olduğuna göre bu sıcaklıkları arasındaki ilişki aşağıdakilerden hangisinde doğru verilmiştir?

- A) $T_1 > T_2 > T_3$ B) $T_3 > T_2 > T_1$
C) $T_1 = T_2 = T_3$ D) $T_3 > T_1 = T_2$

5. Kütleleri eşit 30°C ve 60°C sıcaklıktaki sular büyük bir kaptaki ısı kaybı olmaksızın karıştırılıyor.

Buna göre karışımın denge sıcaklığı kaç $^\circ\text{C}$ olur?

- A) 40 B) 42 C) 45 D) 50

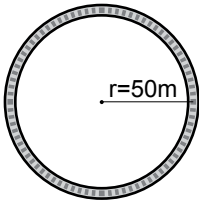
6. Bir aracın tekerleği dakikada 180 tur dönüyor.



Buna göre tekerleğin frekansı kaç Hz dir?

- A) 1 B) 2 C) 3 D) 4

7. Yarıçapı 50 m olan pistteki koşucu bir tam turu 150 saniyede atıyor.



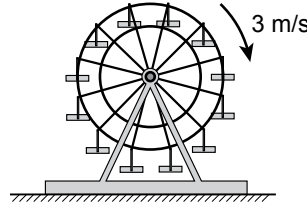
Buna göre koşucunun çizgisel hızı kaç m/s dir? ($\pi = 3$)

- A) 1 B) 2 C) 3 D) 4

8. Yarıçapı r olan dairesel yörüngede bir tam turu 3 saniyede atan bir cismin açısal hızı kaç π rad/s'dir?

- A) $\frac{4}{3}$ B) 1 C) $\frac{2}{3}$ D) $\frac{3}{2}$

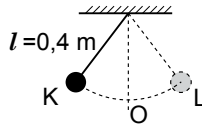
9. Yarıçapı $r = 10$ m olan bir dönme dolap 3 m/s hızla hareket ediyor.



Buna göre dönme dolabın merkezci ivmesi kaç m/s^2 dir?

- A) 9/10 B) 4/5
C) 7/10 D) 3/5

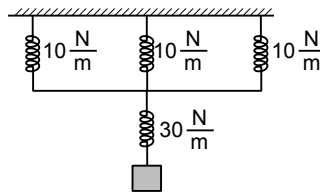
10. Uzunluğu $0,4$ m olan ipin ucuna bağlı m kütleli cisim K - L arasında şekildeki gibi salınım hareketi yapıyor.



Buna göre sarkacın periyodu kaç s dir? ($\pi = 3$; $g = 10$ m/s^2)

- A) 1,4 B) 1,2 C) 1 D) 0,8


11. Şekildeki sistem yay sabitleri 10 N/m ve 30 N/m olan yaylarla kurulmuştur.



Buna göre sistemin eşdeğer sabiti kaç N/m'dir?

- A) 5 B) 10 C) 12,5 D) 15

- 12.



Üzerinde q yükü bulunan r yarıçaplı kürenin potansiyeli aşağıdakilerden hangisinde doğru olarak verilmiştir?

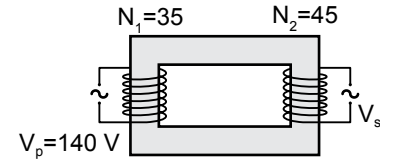
- A) r/kq B) kr/q C) kq/r D) q/kr

13. Sığası $1 \cdot 10^{-8}$ F olan kondansatörde $4 \cdot 10^{-9}$ C luk yük depolanmıştır.

Buna göre kondansatörün uçlarına uygulanan potansiyel farkı kaç Volt'tur?

- A) 0,5 B) 0,4 C) 0,3 D) 0,2

14. Şekildeki ideal transformatörün giriş ve çıkış kollarının sarım sayısı sırayla 35 ve 45 tir.



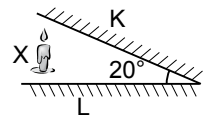
Transformatörün girişine 140 V gerilim uygulandığına göre çıkış gerilimi kaç V olur?

- A) 180 B) 200 C) 220 D) 240

15. İsmi ışık yayan diyot anlamına gelen elektronik devre elemanı aşağıdakilerden hangisidir?

- A) Ampul B) Transistör
C) LED D) Fotodiyot

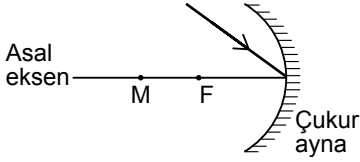
16. Aralarında 20° bulunan K ve L düzlem aynalarının arasına konulan X cisminin toplam görüntü sayısı kaçtır?



- A) 20 B) 19 C) 18 D) 17

3. OTURUM

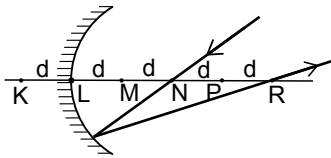
17.



Çukur aynanın tepe noktasına şekildeki gibi gelen I ışını aşağıdakilerden hangisi gibi yansıtır?

- A)
- B)
- C)
- D)

18. Çukur aynaya N noktasından gelen ışın şekildeki gibi R noktasından geçecek şekilde yansıyor.

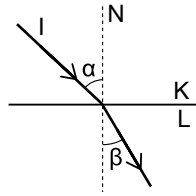


Buna göre aynanın odak uzaklığı kaç d dir?

(Noktalar arası uzaklıklar eşit ve d kadardır.)

- A) 2/3 B) 3/4 C) 1 D) 4/3

19.



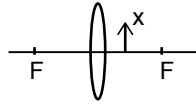
K saydam ortamından şekildeki gibi L saydam ortamına geçen I ışık ışını ile ilgili;

- I. Frekansı azalır.
II. Hızı azalır.
III. Dalgaboyu azalır.

yargılarından hangileri doğrudur?

- A) Yalnız I B) I ve II
C) II ve III D) I, II ve III

20. Odağı F olan ince kenarlı merceğin önüne konulan X cisminin görüntüsü ile ilgili;



- I. Sanaldır.
II. Cisme göre terstir.
III. Boyu cismin boyundan küçüktür.

yargılarından hangileri doğrudur?

- A) Yalnız I B) Yalnız III
C) I ve II D) II ve III

(428) FİZİK – 8

1. Bir X ışını tüpünde elektronlar ivmelendirilerek X ışınları oluşturulmaktadır.

Oluşan X ışınının enerjisi 2,4. 10⁻¹⁵ Joule olduğuna göre hızlandırıcı gerilim kaç Volt tur? (Elektron yükü q_e = 1,6.10⁻¹⁹C)

- A) 1,5.10⁴ B) 10⁴
C) 7,5.10⁴ D) 5.10⁴

2. Aşağıdakilerden hangisi X ışınlarının özelliklerinden biridir?

- A) Manyetizmadan etkilenirler.
B) Enerjileri düşüktür.
C) Dalga boyları büyüktür.
D) Doğrular halinde yayılırlar.

3. X ışını katı bir maddeyle etkileşime girdiğinde;

- I. Soğurulma
II. Yansıma
III. Direkt geçme

olaylarından hangileri gözlenebilir?

- A) I ve II B) I ve III
C) II ve III D) I, II ve III

4. Aşağıda verilen,

- I. Çay şekeri
II. Cam
III. Sofra Tuzu

maddelerinden hangileri kristal yapıdadır?

- A) Yalnız III B) I ve II
C) I ve III D) I, II ve III

5. Aşağıdakilerden hangileri kovalent bağların özelliklerinden biridir?

- A) Kovalent bağlı bileşikler ortaklaşa atom kullanmazlar.
B) Kovalent bağlı bileşikler bileşik yaparak kararlı hale gelirler.
C) Metal ve ametal atomlar arasında oluşur.
D) Kovalent bağlı bileşiklerin tamamı polar yapıdadır.

6. Yarı iletken maddelerin değerlik yörüngelerinde kaç elektron bulunur?

- A) 4 B) 3 C) 2 D) 1

7. ²³⁶₉₀X atomu β(Beta) ışınması yapıyor.

Buna göre oluşan Y atomunun kütle ve atom numaraları aşağıdakilerden hangisi gibi olur?

- A) ²³⁶₉₀Y B) ²³⁶₈₉Y
C) ²³⁶₉₁Y D) ²³⁵₉₁Y

3. OTURUM

8. Yarılanma ömrü 6 gün olan bir maddeden 400 g alınarak 30 gün bekleniyor.

Buna göre 30 gün sonunda maddeden kaç g kalır?

- A) 50 B) 25
C) 12,5 D) 6,25

9. Aşağıdakilerden hangisi Füzyon tepkimelerinin özelliklerinden **değildir**?

- A) Güneşte devamlı oluşan tepkimelerdir.
B) Atom çekirdeğinin bölünmesi tepkimesidir.
C) Sonucunda yüksek enerji açığa çıkar.
D) Oluşması için küçük çekirdekler tercih edilmelidir.

10. Aşağıdaki atom modellerinden hangisi "üzümlü kek modeli" olarak adlandırılır?

- A) Thomson Atom Modeli
B) Dalton Atom Modeli
C) Rutherford Atom Modeli
D) Modern Atom Modeli

11. Aşağıdaki parçacık – karşıt parçacık eşleştirmelerinden hangisi **yanlıştır**?

- A) Elektron – Pozitron
B) Nötron – Karşıt Nötron
C) Nötrino – Karşıt Nötrino
D) Proton – Elektron

12. 500.000 eV kaç MeV dir?

- A) 5 B) 1 C) 0,5 D) 0,05

13. Frekansı $f = 4.10^{21}$ Hz olan bir fotonun enerjisi kaç Joule'dür? ($h = 6.10^{-34}$ j.s)

- A) $1,5.10^{-55}$ B) $24,10^{-13}$
C) $24,10^{-22}$ D) $1,5.10^{-21}$

14. Aşağıdakilerden hangisi atom altı parçacık **değildir**?

- A) Fotonlar B) Leptonlar
C) Hadronlar D) Moleküller

15. Tüm özellikleri elektron ile aynı olup yalnızca yükü pozitif olan karşıt parçacık aşağıdakilerden hangisidir?

- A) Proton B) Nötrino
C) Müon D) Pozitron

16. Fotonlarla ilgili;

- I. Elektriksel olarak nötrdür.
II. Boşlukta ışık hızı ile yayılır.
III. Durgun olarak gözlenebilir.

yargılarından hangileri doğrudur?

- A) Yalnız I B) I ve II
C) I ve III D) II ve III

17. Aşağıdakilerden hangisi nitel gözlemdir?

- A) İçerde çok kişi var.
B) Hava yarın 15°C olacak.
C) Masanın boyu 1,5 metre.
D) Ampermetre 4,7 A değerini gösterdi.

18. Bir hipoteze dayalı tahminin doğruluğunu kanıtlamak için bilimsel işlem basamaklarından hangisi yapılmalıdır?

- A) Deney B) Hipotez
C) Gözlem D) İnceleme

19. Bir bilginin ilk kaynağıyla ilgili araştırma yapan bilim dalı aşağıdakilerden hangisidir?

- A) Kriminoloji B) Kardiyoloji
C) Ekoloji D) Epistomoloji

20. Hipotezle ilgili;

- I. Mantıklı olmalıdır.
II. Sınanabilir olmalıdır.
III. Literatüre uygun olmalıdır.

yargılarından hangileri doğrudur?

- A) Yalnız I B) I ve III
C) I, II ve III D) I ve II

(433) KİMYA – 3

1. $\text{HNO}_3(\text{suda}) \rightarrow \text{H}^+(\text{suda}) + \text{NO}_3^-(\text{suda})$
Sudaki iyonlaşma denklemi yukarıdaki gibi olan HNO_3 'ün sulu çözeltisi ile ilgili aşağıdakilerden hangisi yanlıştır?

- A) 25°C 'de pH değeri 7'den küçüktür.
B) Turnusol kağıdını kırmızıya çevirir.
C) Elde kayganlık hissi uyandırır.
D) Elektrik akımını iletir.

2. Aşağıdaki tepkimelerde su ile etkileşen türlerden hangisi bazik özellik gösterir?

- A) $\text{CO}_2 + \text{H}_2\text{O} = \text{HCO}_3^- + \text{H}^+$
B) $\text{SO}_2 + \text{H}_2\text{O} = \text{HSO}_3^- + \text{H}^+$
C) $\text{NH}_4\text{Br} + \text{H}_2\text{O} = \text{NH}_3 + \text{Br}^- + \text{H}_3\text{O}^+$
D) $\text{NaCN} + \text{H}_2\text{O} = \text{HCN} + \text{Na}^+ + \text{OH}^-$

3. Bazı sulu çözeltilere ait pH değerleri aşağıdaki gibidir.

- pH = 0
• pH = 5
• pH = 9
• pH = 14

Buna göre bu çözeltilerden kaç tanesi baz çözeltilisidir?

- A) 1 B) 2 C) 3 D) 4

4. Aşağıda verilen maddelerden hangisi ile hazırlanan sulu çözeltilerdeki OH^- iyon sayısı H^+ iyon sayısından fazladır?

- A) NH_3 B) CH_3COOH
C) H_2SO_4 D) HClO_4

5. $\text{Asit} + \text{Baz} \rightarrow \text{Na}_2\text{SO}_4 + 2\text{H}_2\text{O}$

Yukarıda verilen tepkimede kullanılan asit ve baz aşağıdakilerin hangisinde doğru verilmiştir?

| | Asit | Baz |
|----|-------------------------|-------------------------|
| A) | H_2S | NaOH |
| B) | H_2SO_4 | NaOH |
| C) | NaOH | H_2SO_4 |
| D) | NaOH | H_2S |

3. OTURUM

6. Yaygın adı potaskostik olan bileşiğin formülü aşağıdakilerden hangisidir?

- A) KOH B) NaOH
C) CaO D) CaCO₃

7. • Halk arasında karınca asidi olarak bilinir.
• Böcek öldürücü ilaç üretiminde kullanılır.

Yukarıda bazı özellikleri verilen madde aşağıdakilerden hangisidir?

- A) HF B) H₂SO₄
C) HCl D) HCOOH

8. Aşağıda verilen tepkimelerden hangisi sonucu gaz açığa çıkmaz?

- A) Ca + H₂SO₄ →
B) Al + HCl →
C) Au + HCl →
D) Zn + HNO₃ →

9. I. SO₂
II. SO₃
III. NO₂

Yukarıda verilenlerden hangileri asit yağmurlarına sebep olur? (7N, 8O, 16S)

- A) Yalnız I B) I ve II
C) II ve III D) I, II ve III

10. Aşağıda bazı tuzlara ait yaygın adlar verilmiştir.

Buna göre hangi tuzun yaygın adı yanlış yazılmıştır?

| | Tuz formülü | Yaygın adı |
|----|---------------------------------|----------------|
| A) | NaCl | Sofra tuzu |
| B) | Na ₂ CO ₃ | Çamaşır sodası |
| C) | CaSO ₄ | Sönmüş kireç |
| D) | NH ₄ Cl | Nişadır |

11. Aşağıda verilen madde örneklerinden hangisi homojen bir karışımdır?

- A) Saf su B) Kolonya
C) Ayran D) Duman

12. • Süspansiyon = Çamurlu su
• Emülsiyon = Zeytinyağı- su
• Aeresol = Sis
• Koloidal süspansiyon = Süt

Yukarıda verilen heterojen karışım türlerine ait örneklerden kaç tanesi doğrudur?

- A) 4 B) 3 C) 2 D) 1

13. Aşağıda bazı maddelerin molekül polarlığı verilmiştir.

| Madde | Molekül Polarlığı |
|---------------------|-------------------|
| Su | Polar |
| Metil alkol | Polar |
| Karbon tetra klorür | Apolar |
| Sıvı yağ | Apolar |

Buna göre aşağıdaki madde çiftlerinden hangilerinin birbirleri içerisinde iyi çözünmesi beklenir?

- A) Su - sıvı yağ
B) Sıvı yağ - metil alkol
C) Su- metil alkol
D) Karbon tetraklorür - su

14. Aşağıdaki saf suların içerisinde verilen miktarlardaki şekerler tamamen çözünerek çözeltiler hazırlanıyor.

- I. 100 g su + 20 g şeker
II. 100 g su + 25 g şeker
III. 100 g su + 18 g şeker
IV. 100 g su + 15 g şeker

Buna göre elde edilen çözeltilerden hangisi daha seyreltiktir?

- A) I B) II. C) III. D) IV.

15. 40 gram şekerin 160 gram saf su içerisinde tamamen çözünmesi sonucu hazırlanan çözeltideki şekerin kütlece yüzde derişimi aşağıdakilerden hangisidir?

- A) 20 B) 40 C) 60 D) 80

16. Saf su ile hazırlanan kütlece % 10'luk 50 gram tuz çözeltisinde kaç gram çözülmüş tuz bulunur?

- A) 1 B) 5 C) 10 D) 20

17. 20 ml etil alkol ve saf su kullanılarak 50 ml bir çözelti hazırlanıyor.

Buna göre elde edilen çözeltideki etil alkolün hacimce yüzdesi kaçtır?

- A) 10 B) 20 C) 25 D) 40

18. Kışın karayollarında buzlanmaya karşı yollara tuzlama çalışmaları yapılır.

Bu çalışmada, yollara dökülen tuzun görevi aşağıdakilerden hangisidir?

- A) Suyun donma noktasını yükseltmek
B) Suyun donma noktasını düşürmek
C) Yoldaki ısı kaybını önlemek
D) Suyun kaynama noktasını düşürmek

19. Alkol - su gibi homojen sıvı- sıvı karışımları ayırmak için aşağıdaki ayırma yöntemlerinden hangisi kullanılır?

- A) Ayrımsal damıtma
B) Ayırma hunisi
C) Flotasyon (yüzdürme)
D) Dinlendirme (aktarma)

20. Ayırma hunisi ile ayrıştırılabilen bir karışımdaki bileşenlerin aşağıdaki özelliklerinden hangisinin birbirinden farklı olması gerekir?

- A) Miknatıslanma özelliği
B) Tanecik boyutu
C) Özkütle
D) Bir katiya bağlanma eğilimi

3. OTURUM

1. Metan (CH_4), etan (C_2H_6) ve propan (C_3H_8) gibi uçucu hidrokarbonlar karışımı olan fosil yakıt aşağıdakilerden hangisidir?

- A) Linyit B) Kok kömür
C) Antrasit D) Doğalgaz

2. • Ham madde olarak kömür havasız ortamda tepkimeye sokulur.
• Saf karbon ve külden oluşan gözenekli bir katıdır.
• Endüstriyel amaçlar için ham madde olarak kullanılır.

Yukarıda bazı özellikleri verilen kömür çeşidi aşağıdakilerden hangisidir?

- A) Antrasit B) Turba
C) Kok D) Linyit

3. Petrol ürünlerinde kütlece yüzde bileşimi en fazla olan element aşağıdakilerden hangisidir?

- A) Karbon (C)
B) Hidrojen (H)
C) Oksijen (O)
D) Kükürt (S)

4. Benzen (C_6H_6) halkasındaki bir C atomunun bir N atomu ile yer değiştirmesi sonucu oluşan $\text{C}_6\text{H}_5\text{N}$ bileşiğinin adı aşağıdakilerden hangisidir?

- A) Tolüen B) Amonyak
C) Anilin D) Piridin

5. Güneş enerjisi için;

- I. Çevreye olumsuz bir etkisi yok sayılır.
II. Yenilenebilir enerjilerdendir.
III. % 100 verimle elektriğe dönüştürülebilir.

verilenlerden hangileri doğrudur?

- A) I ve II B) I ve III
C) II ve III D) I, II ve III

6. Aminoasit molekülünde - - I - - grubuna amino, - - II - - grubuna karboksil grubu denir.

Yukarıda verilen açıklamadaki I ve II numaralı boşluklara aşağıdakilerden hangisi getirilmelidir?

| | I | II |
|----|------------------|------------------|
| A) | -OH | -CN |
| B) | -NH ₂ | -COOH |
| C) | -COOH | -NH ₂ |
| D) | -CN | -OH |

7. Aşağıdakilerden hangisi bir polisakkarittir?

- A) Glikoz B) Fruktoz
C) Maltoz D) Nişasta

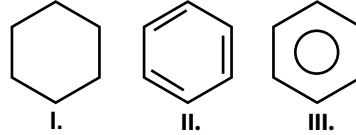
8. Bitki kökenli yakıtlar için;

- I. Temiz enerji kaynaklarıdır.
II. Açığa çıkardıkları enerjiye biyoenerji denir.
III. Bu yakıtlara biyokütle de denir.

yargılarından hangileri doğrudur?

- A) Yalnız I B) I ve II
C) II ve III D) I, II ve III

9.



Yukarıda verilenlerden hangileri benzenin (C_6H_6) gösterim şekillerindedir?

- A) Yalnız I B) Yalnız II
C) II ve III D) I, II ve III

10. Hidrokarbonlar için;

- I. Pi (π) bağı içerirler.
II. C ve H atomlarından oluşurlar.
III. Doymuşlardır.

yargılarından hangileri kesinlikle doğrudur?

- A) Yalnız I B) Yalnız II
C) I ve II D) II ve III

11. Aşağıdaki su örneklerinden hangisinin hacimce içilebilir sular içindeki payı en yüksektir?

- A) Buzullar B) Göller
C) Akarsular D) Yeraltı suları

12. Sert sular için;

- I. Ca^{2+} ve Mg^{2+} iyonları bakımından zengindir.
II. Kağıt, boya, tekstil ve gıda endüstrilerinde kullanımları uygundur.
III. Sabun ile etkileşimleri sonucu sabun taşı oluştururlar.

yargılarından hangileri doğrudur?

- A) I ve II B) I ve III
C) II ve III D) I, II ve III

13. Aşağıdakilerden hangisi suyun kirlenmemesi ve ziyan olmaması için alınacak önlemlerden biri değildir?

- A) Yerleşim yerleri tatlı su kaynaklarının yakınında kurulmalı
B) Yeraltı sularından yararlanılan yerlerde kirli suların toprağa karışması önlenmeli
C) Evlerde bulaşıklar makinada yıkanmalı
D) Evsel endüstriyel atık sular arıtım tesislerinde arıtılmalı

14. Aşağıdaki gıda katkı maddelerinden hangisinin kullanım amacı yanlış verilmiştir?

| Katkı maddesi | Kullanım amacı |
|-------------------|-----------------------------|
| A) Gıda boyaları | Görünümde çekicilik |
| B) Koruyucular | Raf ömrünü uzatmak |
| C) Antibiyotikler | Canlıyı hastalıktan korumak |
| D) Emülgatörler | pH değerini ayarlamak |

3. OTURUM

15. Sabunlar için;

- Yağ asidi ve bazların hidrolizi sonucu oluşur.
- Sulu ortamda kirleri temizlerken misel yapı oluşturur.
- Sadece hidrofil uçtan oluşurlar.

yargılarından hangileri doğrudur?

- A) Yalnız I B) Yalnız II
C) I ve II D) II ve III

16. Deterjanlar için aşağıdaki yargılardan hangisi yanlıştır?

- Doğada kolay parçalanabilen maddelerden oluşurlar.
- Sert sulardan az etkilenirler.
- Petrol kaynaklı kimyasal maddelerden üretilirler.
- Cildi tahriş ederler.

17. Yüzey aktif maddeler için;

- Yağın suya karışmasını sağlar.
- Yağ damlacıklarını kuşatarak suda misel yapı oluşturur.
- Hidrofil ve hidrofob grup içerirler.

yargılarından hangileri doğrudur?

- A) I ve II B) I ve III
C) II ve III D) I, II ve III

18. Polietilen (PE) maddesi için;

- Polimerleşme ürünüdür.
- Naylon ve poşet yapımında kullanılır.
- Monomeri etan (C_2H_6)'dir.

yargılarından hangileri doğrudur?

- A) Yalnız I B) I ve II
C) I ve III D) II ve III

19. Aşağıdakilerden hangisi hava kirliliğini önlemek için alınması gereken tedbirler arasında yer almaz?

- Fosil yakıtların tüketilmesi
- Planlı yapılaşma
- Fabrikalardan çıkan gazların filtre edilmesi
- Yakma sistemlerinin geliştirilmesi

20. Aşağıdakilerden hangisi toprak kirliliğinin oluşmasına sebep olan etkenler arasında yer almaz?

- Asit yağmurları
- Çöpler
- Yoğun gübreleme/ ilaçlama yapılan tarım faaliyetleri
- Ağaçlandırma yapılması

(435) KİMYA – 5

1. Temel haldeki $^{26}_{Fe}$ atomu için aşağıdaki yargılardan hangisi yanlıştır?

- En büyük baş kuantum sayısı 4'tür.
- En yüksek enerjili orbitalinde $2e^-$ bulunur.
- Periyodik cetvelin 8B grubunda yer alır.
- Geçiş elementidir.

2. Açısal momentum kuantum sayısı (ℓ) için;

- Orbitallerin şeklini açıklar.
- Elektronun bulunduğu enerji seviyesini verir.
- Alacağı değerler baş kuantum sayısı (n) değerlerine bağlıdır.

yargılarından hangileri doğrudur?

- A) I ve II B) II ve III
C) I ve III D) I, II ve III

3.

| | | |
|------------|----|----|
| | 1A | |
| 1. periyot | H | 2A |
| 2. periyot | Li | Be |

Periyodik cetvelde yerleri gösterilen elementler için aşağıdaki yargılardan hangisi yanlıştır?

- Li ve Be elementlerinin temel enerji seviyeleri aynıdır.
- H ve Li elementlerinin değerlik elektron sayıları eşittir.
- Li elementinin çekirdek yükü 3'tür.
- H bir metaldir.

4. $^{17}_{Cl}$ elementinde temel halde kaç tane yarı dolu orbital vardır?

- A) 1 B) 2 C) 3 D) 5

5. I. 3d

II. 4p

III. 4d

IV. 5s

Yukarıda verilen orbitallerden hangisinin enerjisi diğerlerinden daha fazladır?

- A) I. B) II. C) III. D) IV.

6. $^3_{Li}$, $^7_{N}$, $^{10}_{Ne}$ elementleri ile ilgili aşağıdakilerden hangisi doğrudur?

- Elektronegatifliği en fazla olan Ne'dir.
- Atom çapı en büyük olan Li'dir.
- Metalik aktifliği en fazla olan N'dir.
- Değerlik elektron sayısı en fazla olan N'dir.

7. Aşağıdaki bileşiklerin hangisinde oksijen elementinin aldığı değerlik diğerlerinden farklıdır?

(1_1H , 6_6C , 8_8O , $^{11}_{11}Na$, $^{19}_{19}K$)

- A) H_2O_2 B) Na_2O_2
C) K_2O_2 D) CO_2

8. Aşağıda verilen bileşik isimlerinden hangisi iyonik bağlı bir bileşiğe aittir?

- Kalsiyum oksit
- Diazot pentaoksit
- Kükürt trioksit
- Karbon tetraklorür

9.

| Bileşik | Yaygın adı |
|-----------|------------|
| NH_3 | Amonyak |
| H_2SO_4 | Zaç yağı |
| HCl | Tuz ruhu |
| NaOH | Sudkostik |

Yukarıda verilen bileşiklerden kaç tanesinin yaygın adı doğru yazılmıştır?

- A) 1 B) 2 C) 3 D) 4

3. OTURUM

(445) BİYOLOJİ – 5

10. 0,2 mol N_2O_5 gazı kaç gramdır?
(N=14 g/mol, O= 16 g/mol)

- A) 5,4 B) 10,8
C) 21,6 D) 54

11. ^{16}O elementi ile ilgili aşağıdaki-
lerden hangisi yanlıştır?
(N_A = Avogadro sayısı)

- A) 16 tane oksijen atomu 1 mol-
dür.
B) 1 mol O_2 N_A tane oksijen
molekülü içerir.
C) 1 tanesi 16 akb'dir.
D) 1 molü 16 gramdır.

12. Sadece C ve H içeren bir bileşiğin
1 molü yakıldığında 2 mol CO_2 ve
2 mol H_2O oluşuyor.

**Buna göre bu bileşiğin basit
formülü aşağıdakilerin hangi-
sinde doğru verilmiştir?**

- A) CH B) CH_2
C) CH_3 D) CH_4

13. Genel formülü C_nH_{2n+2} ve mo-
lekül ağırlığı 58 gram olan bile-
şiğin molekül (gerçek) formülü
aşağıdakilerin hangisinde doğru
verilmiştir?
(H=1 g/mol, C=12 g/mol)

- A) C_2H_6 B) C_3H_8
C) C_4H_{10} D) C_5H_{12}

14. $NH_3 + O_2 \rightarrow N_2 + H_2O$

**Tepkimesi en küçük tamsayı-
larla denkleştirilirse H_2O 'nun
katsayısı aşağıdakilerin hangi-
sinde doğru verilmiştir?**

- A) 1 B) 2 C) 4 D) 6

15. $CH_4 + 4Cl_2 \rightarrow CCl_4 + 4HCl$
tepkimesi ile ilgili;

- I. Yanma tepkimesidir.
II. Cl_2 yükseltgendir.
III. CH_4 indirgendir.

**verilenlerden hangileri doğru-
dur?**

- A) I ve II B) II ve III
C) I ve III D) I, II ve III

16. $C_3H_8(g) + 5O_2 \rightarrow 3CO_2(g) + 4H_2O(s)$

tepkimesinde 22 gram C_3H_8
gazının tamamı O_2 gazı ile
tepkimeye girdiğinde kaç gram
 H_2O bileşiği oluşur?
(H=1 g/mol, C=12 g/mol)

- A) 36 B) 54 C) 72 D) 90

17. Aşağıda verilen hacim birim
dönüşümlerinden hangisi
doğrudur?

- A) 1 litre = 100 ml
B) 1 litre = 1000 cm^3
C) 1 litre = 1 m^3
D) 1 litre = 1000 dm^3

18. 8,2 litrelik kapalı bir kaptaki
 $27^\circ C$ 'de bulunan 1 mol CH_4
gazının kaba yapmış olduğu
basınç kaç atm'dir?

- A) 0,3 B) 1
C) 3 D) 6

19. Sabit hacimli kapalı bir kaptaki aynı
sıcaklıkta 2 mol H_2 , 3 mol He ve
5 mol Ne gazları bulunmaktadır.

**He gazının kısmi basıncı 0,3
atm olduğuna göre kaba yapılan
toplam basınç kaç atm'dir?**

- A) 0,3 B) 0,6
C) 0,9 D) 1

20. Havadaki bağıl nem;

$$\text{Bağıl nem} = \frac{\text{su buharının kısmi basıncı}}{\text{suyun buhar basıncı}} \cdot 100$$

bağıntısı ile hesaplanır.

**Buna göre bağıl nemin % 40 ol-
duğu bir bölgede $25^\circ C$ sıcaklıkta
havada bulunan su buharının kıs-
mi basıncı kaç mmHg'dir?**

($25^\circ C$ 'de suyun buhar basıncı)
24 mm-Hg

- A) 9,6 B) 4,8
C) 2,4 D) 1,2

1. Organik baz(a) + Pentoz(b) + Fos-
fat(c) + Fosfat(c) + Fosfat(c) = ATP
**ATP oluşumu yukarıda verildiği
gibi ise,**

- I. a + b = Adenozin
II. a + b + c = Adenozin monofosfat
III. a + b + 2c = Adenozin difosfat

ifadelerinden hangileri doğrudur?

- A) Yalnız I B) I ve II
C) II ve III D) I, II ve III

2. Fotosentez yapan canlılarda besin
üretirken verilenlerden hangisi-
nin kullanılması ortak değildir?

- A) CO_2 B) Işık
C) Klorofil D) Kloroplast

3. Etki spektrumuna göre aşağıda
verilen ışık çeşitlerinden hangi-
sinin fotosentez değeri diğerle-
rinden yüksektir?

- A) Kırmızı B) Yeşil
C) Turuncu D) Sarı

4. Aşağıda verilenlerden hangisi
fotosentez tepkimelerinin ışık-
tan bağımsız reaksiyonları sıra-
sında görev yapar?

- A) Oksijen B) Işık
C) Enzim D) Klorofil

5. Glikoliz tepkimeleri için,

- I. Hücrenin sitoplazmasında ger-
çekleşir.
II. 2 ATP aktifleşme için kullanılır.
III. NAD^+ molekülü yükseltgenir.

verilenlerden hangileri doğrudur?

- A) Yalnız I B) I ve II
C) II ve III D) I, II ve III

6. Bir hücrenin laktik asit ferman-
tasyonu yaptığı verilenlerden
hangisine bakılarak anlaşılabilir?

- A) Sitoplazmanın pH değerinin
düşmesi
B) Glikoz molekülünün kısmen
parçalanması
C) Pirüvik asitin hidrojen tutma-
sıyla son ürünün oluşması
D) Tepkimelerin her basamağında
farklı bir enzimin görev yapması

3. OTURUM

7. Oksijenli solunumun (a) krebse hazırlık, (b) krebs ve (c) ETS tepkimeleri ökaryot hücrelerde aşağıdaki hangi bölümlerde gerçekleşir?

| | a | b | c |
|---------------|------------|------------|---|
| A) Sitoplazma | Krista | Matriks | |
| B) Sitoplazma | Matriks | Krista | |
| C) Matriks | Sitoplazma | Krista | |
| D) Matriks | Krista | Sitoplazma | |

8. Glikoz dışındaki organik besin monomerlerinin solunum tepkimelerine katıldığı basamaklarla ilgili aşağıdakilerden hangisi yanlıştır?

- A) Amino asitler sadece krebsten katılabilir.
- B) Gliserol, glikoliz basamağından katılır.
- C) Yağ asidi, Asetil CoA' ya dönüşerek katılır.
- D) Amino asitler tepkimelere girerken NH₃ oluşur.

9. Bir sinir hücresinde,

- I. Miyelin kılıfa sahip olması
- II. Akson çapının geniş olması
- III. Ranvier boğum sayısının az olması

verilenlerden hangileri impuls iletim hızını artırır?

- A) Yalnız I
- B) I ve II
- C) I ve III
- D) I, II ve III

10. Sadece duyu nöronları zarar görmüş bir insan için aşağıdakilerden hangisi yanlıştır?

- A) Elini oynatmak isterse oynatabilir.
- B) Elini kızgın sobaya değdirdiğinde sıcaklık hissetmez.
- C) Uyarıyı hisseder ama tepki veremez.
- D) Duyu organından merkezi sinir sistemine uyarı iletilmez.

11. Sinapslarla ilgili olarak aşağıdakilerden hangisi yanlış bir açıklamadır?

- A) Uyarı iletiminin sadece kimyasal olduğu bölümlerdir.
- B) Uyarı iletimi aksondan dentrite doğrudur.
- C) Uyarının son değerlendirildiği bölümdür.
- D) Uyarı iletimi aksonlara oranla yavaştır.

12. Aşağıda verilenlerden hangisi hipotalamus tarafından kontrol edilen durumlardan biri değildir?

- A) Hayatsal reflekslerin kontrol edilmesi
- B) Vücut ısısının sabit tutulması
- C) Kalp atış hızının ayarlanması
- D) Günlük ritmin ayarlanması

13. Sempatik sinir faaliyetiyle verilenlerden hangisi gerçekleşmez?

- A) Tükürük salgısı azalır.
- B) Bronşlar genişler.
- C) İdrar kesesi genişler.
- D) Kalp atışları yavaşlar.

14. Aşağıdakilerden hangisi hormonların özelliklerinden değildir?

- A) İç salgı bezleri tarafından üretilerek kana verilir.
- B) Kanda belirli bir seviyeye geldikten sonra etkisini gösterir.
- C) Sadece proteinden oluşmuş düzenleyici moleküllerdir.
- D) Hedef hücrelere kan yoluyla taşınır.

15. Verilenlerden hangisi hipotalamus tarafından salgılanarak hipofiz bezinin hormon salgılamasını artırıcı yönde etki gösterir?

- A) Releasing
- B) İnhibiting
- C) Oksitosin
- D) ADH

16. Aşağıdaki hormon çiftlerinden hangisi birbirlerine zıt etki gösterir?

- A) Adrenalin - Noradrenalin
- B) Kalsitonin - Parathormon
- C) Glukagon - Kortizol
- D) Östrojen - Progesteron

17. Aşağıda verilen hormonlardan hangisi kan şekerinin artırılması yönünde etki göstermez?

- A) Glukagon
- B) Kortizol
- C) Adrenalin
- D) İnsülin

18. Göze gelen ışınların ilk kırıldığı yer aşağıdakilerden hangisidir?

- A) Mercek
- B) Kornea
- C) İris
- D) Sarı benek

19. Aşağıdaki göz kusurlarından hangisinde görüntünün net algılanabilmesi için silindirik mercek kullanılmalıdır?

- A) Astigmatlık
- B) Miyopluk
- C) Hipermetropluk
- D) Presbitlik

20. Kulakla ilgili aşağıda verilen yapılardan hangisi işitme ile ilgili değildir?

- A) Salyangoz
- B) Korti organı
- C) Kohlear kanal
- D) Yarım daire kanalları

(448) BİYOLOJİ – 8

1. Canlılarda karakterlerin oluşmasında aşağıdakilerden hangisi etkilidir?

- A) Yalnızca çevre
- B) Yalnızca kalıtım
- C) Yalnızca mutasyon
- D) Kalıtım ve çevre

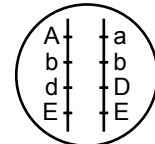
2. AaBb genotipine sahip bir bireyin aB şeklinde bir gameti oluşurma olasılığı nedir? (Genler bağımsızdır.)

- A) 1
- B) 1/2
- C) 1/4
- D) 1/8

3. Kahverengi göz oluşumunu sağlayan genin aleli aşağıdakilerden hangisi olabilir?

- A) Mavi göz geni
- B) Kahverengi saç geni
- C) Çekik gözlülük geni
- D) Renkkörlüğü geni

4.



Yukarıda kromozom – gen durumu verilen hücre için hangisi yanlıştır?

- A) 2n=2 kromozomludur.
- B) Üç çekinik gen vardır.
- C) Dört baskın gen vardır.
- D) İki heterozigot gen vardır.

3. OTURUM

5. Bezelye bitkisindeki $2n = Ss$ genotipindeki yumurta ile, $2n = ss$ genotipindeki polenin tozlaştırılması sonucu aşağıda verilen durumlardan hangisi oluşmaz?

- A) Fenotip çeşit sayısı: 2
B) Fenotipik ayrışım oranı: 1/1
C) Genotip çeşit sayısı: 3
D) Genotipik ayrışım oranı: 1/1

6. Aşağıda dihibrit çaprazlama sonucu punnet karesi şeklinde verilmiştir. (S: sarı, s: yeşil renkli bezelye tohumu, D: düz, d: buruşuk yapıda bezelye tohumu)

| Dişi gamet \ Erkek gamet | $\frac{1}{4}$ SD | $\frac{1}{4}$ Sd | $\frac{1}{4}$ sD | $\frac{1}{4}$ sd |
|--------------------------|------------------|------------------|------------------|------------------|
| $\frac{1}{4}$ SD | | I | | |
| $\frac{1}{4}$ Sd | | | | II |
| $\frac{1}{4}$ sD | | | III | |
| $\frac{1}{4}$ sd | | | | IV |

Buna göre numaralı yerlerdeki bireyler için verilenlerden hangisi doğrudur?

- A) I, sarı renkli, düz tohumlu bezelye
B) II, homozigot sarı renkli, düz tohumlu bezelye
C) III, sarı renkli, buruşuk tohumlu bezelye
D) IV, homozigot yeşil renkli, düz tohumlu bezelye

7. Aynı karakter üzerine A1, A2, A3, A4 ve A5 olmak üzere beş alelin etki etmesi durumunda olası genotip çeşit sayısı kaç olur?

- A) 5 B) 10 C) 15 D) 30

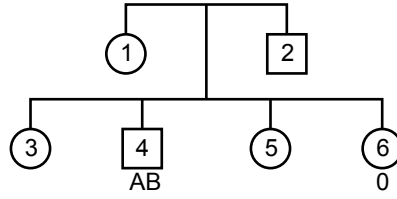
8. Bir bireyin genotipinin belirli bir karakter bakımından homozigot mu yoksa heterozigot mu olduğunu belirlemek için,

- I. Karakter yönünden çekinik özellik gösteren birey
II. Karakter yönünden homozigot baskın genotipli birey
III. Karakter yönünden heterozigot baskın genotipli birey

verilenlerden hangileri ile çaprazlama yapılması gerekir?

- A) Yalnız I B) Yalnız III
C) I ve II D) II ve III

9.



Verilen soy ağacında 4 numaralı birey AB, 6 numaralı birey 0 kan gruplu olduğuna göre aşağıdakilerden hangisi yanlıştır?

- A) 1 numaralı birey heterozigot kan gruplu olabilir.
B) 2 numaralı birey AB kan gruplu olabilir.
C) 3 numaralı birey A0 genotipli olabilir.
D) 5 numaralı birey 00 genotipli olabilir.

10. Dişi Drosophila'nın genotipi = X^kX^k , erkek Drosophila'nın genotipi = X^kY olduğuna göre bu iki Drosophila'nın çaprazlanmasıyla aşağıdaki döllerden hangisi oluşmaz?

(Drosophila; sirke sineği olup, X^k = Kırmızı göz genini, X^k = Beyaz göz genini ifade eder.)

- A) Kırmızı gözlü dişi Drosophila
B) Kırmızı gözlü erkek Drosophila
C) Beyaz gözlü dişi Drosophila
D) Beyaz gözlü erkek Drosophila

11. Renkkörü bir annenin çocukları için,

- I. Erkek çocukları renkkördür.
II. Kız çocukları renkkördür.
III. Kız çocukları ilgili geni taşımaz.
verilenlerden hangileri kesinlikle doğrudur?

- A) Yalnız I B) I ve II
C) II ve III D) I, II ve III

12. Aşağıda verilenlerden hangisi otozom kromozomlarında ayrılma sonucu oluşan duruma örnek verilir?

- A) Klinefelter erkek
B) Down erkek
C) Süper dişi
D) Turner dişi

13. Kromozomdan parça kopması veya kopan parçanın yanlış bağlanması şeklinde ortaya çıkan mutasyon çeşidi aşağıdaki-lerden hangisi ile tanımlanır?

- A) Gen mutasyonu
B) Nokta mutasyonu
C) Kromozom mutasyonu
D) Ayrılmama mutasyonu

14. Varyasyonlar ile ilgili,

- I. Üreme hücrelerindeki DNA'da meydana gelen değişikliklerdir.
II. Kalıtsal olup döden dölle aktarılır.
III. Mutasyon, mayoz bölünme ve crossing-over sonucu oluşabilir.

verilenlerden hangileri doğrudur?

- A) Yalnız II B) Yalnız III
C) I ve III D) I, II ve III

15. Aşağıda verilenlerden hangisi popülasyonlardaki genlerin frekansının değişmesine yol açan faktörlerden değildir?

- A) Mutasyon B) Modifikasyon
C) Seleksiyon D) İzolasyon

16. 2000 kişilik bir popülasyonda baskın genin frekansının 0,6 olduğu bilindiğine göre bu popülasyondaki heterozigot baskın bireylerin sayısı kaç olmalıdır?

- A) 480 B) 640
C) 960 D) 1920

17. Küçük popülasyonların gen havuzunda şansa bağlı olarak meydana gelen değişme aşağıdaki-lerden hangisi ile tanımlanır?

- A) Göç
B) Ayrılma
C) Doğal seçim
D) Genetik sürüklenme

18. Aşağıda verilenlerden hangisi biyolojik yöntemlerle elde edilen ürünlerden biri değildir?

- A) Aseton B) İnterferon
C) Penisilin D) İnsülin

3. OTURUM

19. • Hücrelere kısa süreli elektrik akımı uygulanarak DNA, hücre zarında oluşan geçici deliklerden hücre içerisine aktarılması yöntemidir.
- Hücre veya dokunun üzerine DNA kaplı parçacıklar içeren çok hızlı olan mermi ile ateş edilmesi tekniğidir.
 - Çok ince uçlu iğneye sahip enjektör ile hücre zarı geçilip, doğrudan hücre çekirdeğine rekombinant DNA'nın enjekte edilmesi yöntemidir.

Verilen açıklamalar incelendiğinde aşağıdakilerden hangisinin karşılığı yoktur?

- A) Elektroporasyon
- B) Transformasyon
- C) Mikroenjeksiyon
- D) Biyolistik

20. Belirli bir DNA bölümünün kesilerek bir vektör içerisine konulması ve daha sonra bakteri içerisinde çoğaltılması işlemleri aşağıdakilerden hangisi ile tanımlanır?

- A) RNA kopyalanması
- B) Canlı klonlanması
- C) DNA kopyalanması
- D) Gen klonlanması

(452) ÇAĞ.TÜRK DÜN.TAR. – 2

1. “30 Eylül 1971 tarihinde iki ülke arasında yanlışlıkla bir nükleer savaş çıkmasını önleyecek tedbirleri saptayan iki taraflı “Kaza Önleme Antlaşması” imzalanmıştır.”

Verilen cümlede altı çizili olan “iki ülke” ifadesinden kastedilen ülkeler, aşağıdakilerden hangisidir?

- A) ABD - Çin
- B) ABD - SSCB
- C) ABD - Japonya
- D) SSCB - Almanya

2. Küba Buhranı sırasında Türkiye’ye “Jüpiter” füzelerini, aşağıdaki ülkelerden hangisi yerleştirmiştir?

- A) Çin
- B) Almanya
- C) Sovyet Rusya
- D) Amerika Birleşik Devletleri

3. Avrupa Güvenlik ve İş Birliği Teşkilatının kısaltması, aşağıdakilerden hangisidir?

- A) AGİK
- B) OPEC
- C) NATO
- D) ASALA

4. 1960 – 1980 yılları arası Türk – Yunan ilişkilerini ikiye ayırarak incelemek istesek, aşağıdaki hangi yılı milat olarak alabiliriz?

- A) 1964’ü
- B) 1971’i
- C) 1974’ü
- D) 1979’u

5. Aşağıdaki antlaşmalardan hangisiyle “Kuzey Vietnam” ve “Güney Vietnam” iki bağımsız devlet olmuştur?

- A) Roma Antlaşması
- B) Cenevre Antlaşması
- C) Camp David Antlaşması
- D) Dayton Barış Antlaşması

6. ABD Başkanı Jimmy Carter’ın, 28 Aralık 1979’da yaptığı konuşmada “milletlerarası hukuka aykırı” ve “kaba bir müdahale” diye tepki gösterdiği olay, aşağıdakilerden hangisidir?

- A) Küba Buhranı
- B) Keşmir Meselesi
- C) Kıbrıs Barış Harekâtı
- D) Afganistan’ın SSCB tarafından işgali

7. Mısır’ın, aşağıdakilerden hangisini millileştirmesi, 1956 Mısır - İsrail Savaşı’nın ana nedenini oluşturur?

- A) Golan tepelerini
- B) Sina Yarımadası’nı
- C) Süveyş Kanalı’nı
- D) Akabe Körfezi’nin

8. Önemli bir suyolu olan Şattülrap, aşağıdaki hangi savaşın çıkış nedenlerinin ana sebebidir?

- A) Altı Gün Savaşı’nın
- B) İran – Irak Savaşı’nın
- C) Yom Kippur Savaşı’nın
- D) Birinci Körfez Savaşı’nın

9. Devekuşu Kabare Tiyatrosu, aşağıda birlikte verilen sanatçılardan hangileri tarafından kurulmuştur?

- A) Zeki Alasya – Metin Akpınar
- B) Kemal Sunal – Şener Şen
- C) Ferdi Tayfur – Ali Sunal
- D) Münir Özkul – Adile Naşit

10. “12 Eylül Dönemi” olarak Türk siyasi tarihine geçen zaman diliminde, aşağıdaki anayasalardan hangisi yürürlükten kaldırılmıştır?

- A) 1982
- B) 1961
- C) 1924
- D) 1921

11. Yugoslavya’dan ilk kopan devlet, aşağıdakilerden hangisidir?

- A) Bosna – Hersek
- B) Hırvatistan
- C) Makedonya
- D) Slovenya

12. Sovyetler Birliği Komünist Partisi Genel Sekreteri Mihail Gorbaçov’un;

“I - Perestrojka” ve “II - Glasnost” adını verdiği reform çalışmalarının anlamı, aşağıdakilerin hangisinde doğru verilmiştir?

- | | I | II |
|----|-------------------|-------------------|
| A) | İhtilal | Proletarya |
| B) | Açıklık | Yeniden yapılanma |
| C) | Yeniden yapılanma | Açıklık |
| D) | Süper güç | Diktatör |

3. OTURUM

13. Nahcivan Özerk Cumhuriyeti'nin aşağıdaki devletlerden hangisiyle kara sınırı yoktur?

- A) Azerbaycan
- B) Ermenistan
- C) Türkiye
- D) İran

14. Orhan Pamuk, aşağıdaki ödüllerden hangisini almıştır?

- A) OSCAR
- B) Nobel Kimya Ödülü
- C) Nobel Edebiyat Ödülü
- D) Altın Palmiye Sinema Ödülü

15. Aşağıdaki tarihlerin hangisinde Türkiye, Helsinki'de yapılan AB Devlet ve Hükümet Başkanları Zirvesi'nde oy birliği ile "Avrupa Birliğine Aday Ülke" olarak kabul edilmiştir?

- A) 12 Eylül 1963
- B) 01 Ocak 1996
- C) 12 - 13 Aralık 1997
- D) 10 - 11 Aralık 1999

16. GAP (Güneydoğu Anadolu Projesi), aşağıdaki illerden hangisini kapsamaz?

- A) Adıyaman
- B) Malatya
- C) Mardin
- D) Şırnak

17. Cumhurbaşkanı Turgut Özal'ın 1993 yılında vefatı sonrasında aşağıdakilerden hangisi cumhurbaşkanı olmuştur?

- A) Kenan Evren
- B) Abdullah Gül
- C) Süleyman Demirel
- D) Ahmet Necdet Sezer

18. Aşağıdakilerden hangisi dünyada son 30 yıl içinde etkili olan salgın hastalıklardan biri değildir?

- A) Veba
- B) AIDS
- C) Sıtma
- D) Kuş Gribi

19.



Dilsiz haritada verilen boru hattının geçtiği ülkeler, aşağıdaki seçeneklerin hangisinde doğu - batı yönünde doğru sıralanmıştır?

- A) Azerbaycan - İran - Türkiye
- B) Azerbaycan - Gürcistan - Türkiye
- C) Azerbaycan - Rusya Federasyonu - İran - Türkiye
- D) Azerbaycan - Rusya Federasyonu - Gürcistan - İran - Türkiye

20. Kyoto Protokolü, aşağıdaki sorunlardan hangisinin çözümü için hazırlanmıştır?

- A) Açlık
- B) Küresel ısınma
- C) Uluslararası terör
- D) Nüfus artışı ve işsizlik

(462) EKONOMİ – 2

1. Gelirin özelliklerine göre aşağıdakilerden hangisi gelir çeşitlerinden biridir?

- A) Miras
- B) Bağış
- C) Ücret
- D) Sadaka

2. Üretim faktörlerinden toprağın geliri aşağıdakilerden hangisidir?

- A) Kâr
- B) Faiz
- C) Ücret
- D) Rant

3. Et fiyatlarının aşırı ölçüde artmasıyla insanların tavuk ve balığa olan taleplerinin yükselmesi, hangi ekonomi yasasına örnek olur?

- A) Enflasyon yasasına
- B) İkame yasasına
- C) Talep yasasına
- D) Arz yasasına

4. Aşağıdakilerden hangisi reel ücretin tanımıdır?

- A) Alınan ücretin satın alma gücü
- B) Parça başına hesaplanan ücret
- C) Zaman birimine göre hesaplanan ücret
- D) İşçinin çalışmasına karşılık aldığı para miktarı

5. Banka mevduat hesabındaki paranın geri alınması ile sağlanan para ekonomide gelir kabul edilmez.

Bu durum, gelirin hangi özelliğine örnek olur?

- A) Gelirin para ile ifade edilmesine
- B) Gelirin sürekli ve düzenli olmasına
- C) Gelirin kişilerin ekonomik güçlerini artırmalarına
- D) Gelirin üretime katılmanın karşılığı olmasına

6. Malların doğrudan doğruya bir ihtiyacı karşılamak için kullanılmasına ne denir?

- A) Üretim
- B) Dağıtım
- C) Dolaylı tüketim
- D) Dolaysız tüketim

7. Doğa ve emeğin birleşmesiyle üretilmiş olan, mal veya hizmet üretiminde kullanılan her türlü maddi araçlara sermaye denir.

Bu tanıma göre, aşağıdakilerden hangisi sermayenin özelliklerinden değildir?

- A) Doğa ve emeğin birleşmesiyle meydana gelmişlerdir.
- B) Önceden üretilmiş olan maddi araçlardır.
- C) Doğada sınırsız miktarda bulunurlar.
- D) Yeni bir üretimde kullanılırlar.

8. Hazırlık evresi ya da eğitim gerektiren işlerde çalışanların emeğine ne denir?

- A) Vasıflı emek
- B) Objektif emek
- C) Vasıfsız emek
- D) Subjektif emek

3. OTURUM

9. Üretim faaliyetine katılan aşağıdaki elemanlardan hangisi üretim sonucunda değişikliğe uğrar?

- A) Ulaşım araçları
- B) Ham maddeler
- C) Makineler
- D) Araziler

10. Tasarruf aşağıdakilerden hangisinin oluşumunu sağlar?

- A) Sermayenin
- B) Üretimin
- C) Gelirin
- D) Giderin

11. Aşağıdakilerden hangisi ekonomik büyümenin göstergelerinden biridir?

- A) Ulusal gelirin artması
- B) Ulusal gelirin düşmesi
- C) İhracat ve ithalatın düşmesi
- D) Kamu harcamalarının artması

12. Malların insanlar arasında el değiştirmesine ne denir?

- A) Üretim
- B) Mübadele
- C) Tüketim
- D) İnkısam

13. Türkiye’de kâğıt para basma yetkisine sahip olan banka aşağıdakilerden hangisidir?

- A) İş Bankası
- B) Ziraat Bankası
- C) Vakıflar Bankası
- D) Merkez Bankası

14. Aşağıdakilerden hangisi çevre kirliliğine neden olan etkenlerdendir?

- A) Çevre eğitiminin yaygınlaştırılması
- B) Altyapı işlerinin yapılması
- C) Nüfusun aşırı artması
- D) Yeşil alanların artması

15. “Türkiye’nin asıl sahibi ve efendisi, gerçek üretici olan köylüdür. O hâlde herkesten daha çok refah, mutluluk ve servete hak kazanan ve layık olan da köylüdür...” Atatürk, 1 Mart 1922’de TBMM’yi açış konuşmasında söylediği yukarıdaki sözleri ile aşağıdaki sektörlerden hangisinin önemini vurgulamıştır?

- A) Hizmet
- B) Tarım
- C) Sanayi
- D) Ulaşım

16. • Ekonomik bir ünedir.
• Karar alma merkezidir.
• Mal ve hizmet üreten ve satan bir ünedir.
• Üretim faktörlerini sağlayan ve kullanan bir ünedir.

Bu özellikler aşağıdakilerden hangisine aittir?

- A) Üretime
- B) Girişime
- C) Kişilere
- D) Sermayeye

17. Aşağıdakilerden hangisi rekabetin özelliklerinden değildir?

- A) Piyasada tekel oluşturması
- B) İşletmeleri daha aktif hâle getirmesi
- C) Yeni üretim yöntemlerini kullandırması
- D) Genel olarak fiyatların düşmesini sağlaması

18. Üretim yöntemi ile millî gelirin hesaplanması için hangi değerler toplanır?

- A) Devletin bir yıl içinde topladığı vergiler
- B) Bir yıl içinde mal ve hizmete yapılan harcamalar
- C) Üretim faktörlerinin bir yıl içinde elde ettiği gelirler
- D) Tarım, sanayi ve hizmet sektörlerinin bir yıl içinde ürettiği mal ve hizmet miktarları

19. Maden rantının ortaya çıkış nedeni aşağıdakilerden hangisidir?

- A) Maden üretiminde farklı teknolojiler kullanılması
- B) Tarım yapılan toprakların verimliliğinin farklı olması
- C) Bir madenin değişik alanlarda farklı maliyetlerde üretilmesi
- D) Şehrin değişik yerlerindeki konut ve iş yeri kiralalarının farklı olması

20. Millî gelirin üretim faktörlerinin üretimden aldıkları paylara göre dağılımına dağılım denir. Boş bırakılan yere aşağıdakilerden hangisi yazılmalıdır?

- A) kişisel
- B) mesleksel
- C) sektörel
- D) fonksiyonel

(468) MATEMATİK – 8

1. $f: \mathbb{R} \rightarrow \mathbb{R}$,
 $f(x) = 2x^3 - 4x^2 + 7x + 1$
olduğuna göre $f'(x)$ aşağıdakilerden hangisidir?

- A) $6x^2 - 8x + 7$
- B) $6x^2 + 8x - 7$
- C) $3x^2 - 2x + 7$
- D) $3x^2 + 2x - 7$

2. $f: \mathbb{R} - \{-4\} \rightarrow \mathbb{R} - \{1\}$,
 $f(x) = \frac{x-2}{x+4}$ olduğuna göre
 $f'(-3)$ kaçtır?

- A) 8
- B) 7
- C) 6
- D) 5

3. $f: \mathbb{R} \rightarrow \mathbb{R}$,
 $f(x) = \sqrt{x^2 - 2x + 3}$ fonksiyonunun türevi aşağıdakilerden hangisidir?

- A) $\frac{2x-2}{\sqrt{x^2-2x+3}}$
- B) $\frac{\sqrt{x^2-2x+3}}{2x-2}$
- C) $\frac{\sqrt{x^2-2x+3}}{x-1}$
- D) $\frac{x-1}{\sqrt{x^2-2x+3}}$

3. OTURUM

4. $\left. \begin{array}{l} x = 3t^2 - 1 \\ y = t^3 + t - 2 \end{array} \right\}$ olduğuna göre $\frac{dy}{dx}$ 'in $t = -1$ için değeri kaçtır?

A) $-\frac{4}{3}$ B) $-\frac{2}{3}$ C) $\frac{2}{3}$ D) $\frac{4}{3}$

5. $f: \mathbb{R} \rightarrow \mathbb{R}$, $g: \mathbb{R} \rightarrow \mathbb{R}$,
 $f(x) = x^2 - 2x + 1$ ve
 $g(x) = 2x^3 - 8x^2 + 3x - 2$ olduğuna göre $(g \circ f)'(1)$ kaçtır?

A) -2 B) 0 C) 2 D) 4

6. $f(x) = \tan 6x$ olduğuna göre $f'(\pi)$ kaçtır?

A) 0 B) 1
C) $3\sqrt{3}$ D) 6

7. $f(x) = \log_5 x^3$ fonksiyonunun türevi aşağıdakilerden hangisidir?

A) $\frac{5}{x \cdot \ln 3}$ B) $\frac{5}{x^2 \cdot \ln 3}$
C) $\frac{3}{x \cdot \ln 5}$ D) $\frac{3}{x^2 \cdot \ln 5}$

8. $2a + b = 8$ olduğuna göre $a \cdot b$ 'nin alabileceği en büyük değer kaçtır?

A) 4 B) 8 C) 16 D) 32

9. $\int (4x^3 + 6x^2) dx$ aşağıdakilerden hangisine eşittir?

A) $x^4 + 2x^3 + c$
B) $2x^4 + x^3 + c$
C) $12x^2 + 12x + c$
D) $4x^2 + 6x + c$

10. $\int \sin^5 x \cdot \cos^3 x dx$ aşağıdakilerden hangisine eşittir?

A) $\frac{\sin^6 x}{6} + \frac{\cos^4 x}{4} + c$
B) $\frac{\sin^6 x}{6} - \frac{\sin^8 x}{8} + c$
C) $\frac{\sin^8 x}{8} + \frac{\sin^5 x}{5} + c$
D) $\frac{\sin^8 x}{8} - \frac{\cos^5 x}{5} + c$

11. $\int \frac{e^{x+2}}{2} dx$ aşağıdakilerden hangisine eşittir?

A) $\frac{1}{2}e^x + c$ B) $\frac{e^{x+3}}{3} + c$
C) $\frac{1}{2}e^{x+2} + c$ D) $e^{x+2} + c$

12. $\int \frac{4}{4x-5} dx$ aşağıdakilerden hangisine eşittir?

A) $\ln|4x-5| + c$
B) $4\sqrt{4x-5} + c$
C) $-\ln\sqrt{4x-5} + c$
D) $-4\ln|4x-5| + c$

13. $\int \frac{x}{\cos^2 x} dx$ aşağıdakilerden hangisine eşittir?

A) $x \cdot \cot x - \ln|\sin x| + c$
B) $x \cdot \tan x - \ln|\cos x| + c$
C) $x \cdot \cot x + \ln|\sin x| + c$
D) $x \cdot \tan x + \ln|\cos x| + c$

14. $\int_{-3\pi}^{\pi} \sin x dx$ değeri kaçtır?

A) -2 B) -1 C) 0 D) 2

15. $\int_1^5 |2x-6| dx$ değeri kaçtır?

A) 4 B) 6 C) 7 D) 8

16. $f(x) = 4 - x^2$ fonksiyonunun grafiği ile x ekseninde kalan bölgenin alanı kaç birimkaredir?

A) $\frac{32}{3}$ B) 10
C) $\frac{28}{3}$ D) $\frac{25}{3}$

17. $y = \sqrt{x}$ eğrisi, x ekseninde, $x = 1$ ve $x = 2$ doğrularıyla sınırlanan bölgenin x ekseninde etrafında 360° döndürülmesiyle elde edilen cismin hacmi kaç π birimküptür?

A) 3 B) $\frac{5}{2}$ C) 2 D) $\frac{3}{2}$

18. $A = \begin{bmatrix} -1 & m-3 \\ n & 6 \end{bmatrix}$ ve $B = \begin{bmatrix} a & 7 \\ 3 & b+1 \end{bmatrix}$ matrisleri veriliyor. $A = B$ olduğuna göre $a + b + m + n$ kaçtır?

A) 16 B) 17 C) 18 D) 19

19. $A = \begin{bmatrix} 575 & 576 \\ 573 & 574 \end{bmatrix}$ matrisinin determinantı aşağıdakilerden hangisine eşittir?

A) 0 B) 1 C) 2 D) 3

20. $A = \begin{bmatrix} 2 & 1 \\ a & -1 \end{bmatrix}$ matrisinin çarpma işlemine göre tersi olmadığına göre a kaçtır?

A) -2 B) -1 C) 0 D) 2

3. OTURUM

(478) MANTIK – 1

1. Mantık doğrusu, doğruluğu gözlem ve deneyle değil, akıl aracılığıyla bilinen yargılardır.

Buna göre aşağıdakilerden hangisi mantık doğrusuna örnektir?

- A) Taş serttir
B) Kar beyazdır
C) Hiçbir insan kedi değildir
D) Su 100 C'de kaynar

2. Bütün öğretmenler üretkendir. Kemal öğretmendir. O halde, Kemal de üretkendir.

Verilen akıl yürütme aşağıdakilerden hangisine örnektir?

- A) Tümdengelim
B) Tümevarım
C) Analoji
D) Özdeşlik

3. "Bir şey ne ise odur, her şey kendisinin aynısıdır" özdeşlik ilkesinin tanımıdır.

Aşağıdakilerden hangisi özdeşlik ilkesine örnektir?

- A) Cemre hem başarılı hem de başarısız olamaz
B) Kapı ya kapalıdır ya da açıktır
C) Taş hem var hem de yok olamaz
D) Öğrenci öğrencidir

4. Aşağıdakilerden hangisi İslâm mantıkçılarından biri değildir?

- A) İbn-i Sina B) Aristoteles
C) Farabi D) Râzi

5. Dil içinde tek başına anlam taşıyan en küçük birime terim denir.

Buna göre aşağıdakilerden hangisi terimdir?

- A) Ve B) İle
C) Bu D) Kelebek

6. Duyularla algılanan, bir nesneye işaret eden kavramlara somut kavram denir.

Buna göre aşağıdakilerden hangisi somut kavramdır?

- A) Güzellik B) Yiğittik
C) Kitaplık D) İnsanlık

7. İnsanın hem neliği hem de gerçekliği vardır fakat, "kaf dağ"ının neliği vardır ama gerçekliği yoktur

Kavramların gerçeklik olarak belirlenmesinin ölçütü aşağıdakilerden hangisidir?

- A) Kavramın anlaşılır olması
B) Kavramın olumlu olması
C) Kavramın Tikel olması
D) Kavramın dış dünyada bulunması

8. Varlık → Canlı → Hayvan → Kuş

Yukarıdaki kavram sıralamasında kaplamı en fazla olan hangisidir?

- A) Varlık B) Canlı
C) Hayvan D) Kuş

9. Hiçbir kedi köpek değildir. Hiçbir köpek kedi değildir.

Bu yargılara göre kedi ve köpek kavramları arasındaki ilişkide çeşidi aşağıdakilerden hangisinde verilmiştir?

- A) Eşitlik
B) Ayrıklık
C) Tam girişimlilik
D) Eksik girişimlilik

10. İlinti, birçok türde ortaklaşa bulunan özelliklerdir.

Buna göre aşağıdakilerden hangisi insanın ilintisidir?

- A) Sosyalleşmek
B) Alet yapmak
C) Yürümek
D) Düşünmek

11. I. Kategorilerden en üstte bulunan cinslerin
II. Koku, ses gibi duyu verilerinin
III. Aşk gibi duygusal yaşantıların

Verilenlerden hangilerinin işlemel olarak tanımlanamaz?

- A) I ve II B) I ve III
C) II ve III D) I, II ve III

12. Aşağıdakilerden hangisi önerme değildir?

- A) Ali çalışkan değildir.
B) Allah'ım yardım et.
C) Kar beyazdır.
D) 2+2=4

13. Basit önermeler, içerisinde tek yargıyı barındıran önermelerdir.

Buna göre aşağıdakilerden hangisi basit önermedir?

- A) Hava yağmurlu ise rutubet fazladır.
B) Bilim öğretici ve mantıksaldır.
C) Ali ve Ahmet çalışkandır.
D) Tebeşir beyazdır.

14. Bir yargıyı karşılaştırma ile ifade eden önermeler karşılaştırmalı bileşik önermedir.

Aşağıdaki önermelerden hangisi, karşılaştırmalı bileşik bir önermedir?

- A) Ali Ahmet'ten daha çalışkandır.
B) Ayşe öğrencidir.
C) Ekrem sporcudur.
D) Tüm çiçekler güzel kokar.

15. Tikel olumlu bir önermenin alt karşıtı olan önerme tikel olumsuzdur.

Buna göre "Bazı insanlar erdemlidir." önermesinin alt karşıtı aşağıdakilerden hangisidir?

- A) Bütün erdemliler insandır.
B) Hiçbir insan erdemli değildir.
C) Bazı insanlar erdemli değildir.
D) Bütün insanlar erdemlidir.

3. OTURUM

(500) İNGİLİZCE – 6

1 - 20. sorularda boş bırakılan yere uygun gelen kelime ya da ifadeyi işaretleyiniz.

16. Düz döndürme, bir önermenin niteliğini değiştirmeden özne ve yüklem yerinin değiştirilerek anlamca eşdeğer, aynı doğruluk değerine sahip yeni bir önerme yapmaktır.

Aşağıdakilerden hangisi “Bazı insanlar hastadır.” önermesinin düz döndürmesidir?

- A) Bütün hastalar insandır.
B) Bazı hastalar insandır.
C) Hiçbir insan hasta değildir.
D) Bazı insanlar hasta değildir.

17. Bir kıyasta, öncüllerden zorunlu olarak çıkan önerme aşağıdakilerden hangisiyle ifade edilir?

- A) Sonuç B) Karşıt
C) Altık D) Çelişik

18. Yüklemlerle kesin kıyas kurallarına göre iki tikel öncülden çıkan sonuç önermesiyle ilgili doğru ifade aşağıdakilerden hangisidir?

- A) Sonuç olumludur
B) Sonuç tümel olumludur
C) Sonuç tikel olumludur
D) İki tikel öncülden sonuç çıkmaz

19. • Bütün insanlar ölümlüdür.
• Ahmet insandır.
• ...

Yukarıda öncülleri verilen kıyasın geçerli sonucu aşağıdakilerden hangisidir?

- A) O halde Ahmet ölümlüdür.
B) O halde Ahmet ölümsüzdür.
C) Bazı insanlar ölümlüdür.
D) Bazı ölümlüler insandır.

20. Hırsızlık yapanlar huzursuzdur. (Delili: Çünkü toplum ve vicdanı kendisini ayıplar.)
Huzursuz kimse mutlu olamaz. (Delili: Çünkü mutluluk huzuru gerektirir.)
Öyleyse hırsızlık yapan kimse mutlu değildir.

Yukarıda verilen kıyas çeşidi, aşağıdakilerden hangisine örnek olur?

- A) Zincirleme kıyas
B) Delilli kıyas
C) Basit kıyas
D) Karma kıyas

8. I have been looking for my dictionary. I looked - - - - but I couldn't find it.

- A) everywhere B) nowhere
C) anywhere D) where

9. The questions were - - - - difficult - - - - I couldn't answer them.

- A) such / that B) so / that
C) as / as D) very / as

10. You have to speak - - - - with your teachers.

- A) quick B) fast
C) easily D) carefully

11. If you - - - - cold water, you get ill.

- A) will drink B) drinks
C) drink D) would drink

12. If I - - - - you, I would study harder.

- A) were B) are
C) will be D) have been

13. Call me if you - - - - your mind.

- A) remember B) decide
C) forget D) change

14. If she - - - - here earlier, she wouldn't have missed the bus.

- A) come B) came
C) had come D) has come

15. The teacher - - - - wrote these questions must be very cruel.

- A) which B) who
C) whose D) where

16. The man - - - - wife died two years ago lives alone in that big house.

- A) who B) which
C) whose D) where

1. Selim - - - - TV since he came home.

- A) has been watching
B) will be watching
C) is watching
D) watched

2. I have been waiting for you - - - - an hour.

- A) after B) since
C) before D) for

3. What - - - - you - - - - this time tomorrow?

- A) do / do
B) were / doing
C) will / be doing
D) have / been doing

4. I have to go to the airport. - - - - borrow your car?

- A) Must I B) May I
C) Should I D) Would I

5. - - - - pick me up from the terminal?

- A) May I B) Can I
C) Have you D) Could you

6. I will be flying to my hometown to see my parents - - - - .

- A) for a long time
B) last month
C) next week
D) yesterday

7. I don't like horror movies. I - - - - watch them.

- A) generally B) usually
C) always D) seldom

3. OTURUM

17. He started to run - - - - he saw me.

- A) if B) while
C) as soon as D) so fast that

18. - - - - it was cold, we didn't go out.

- A) As soon as B) Because
C) Although D) If

19. - - - - they played better, they lost the game.

- A) Although B) Because
C) Before D) If

20. The hotel - - - - we stayed last year was very bad.

- A) where B) what
C) whose D) there

(500) ALMANCA – 6

1 - 17. sorularda boş bırakılan yere uygun gelen kelime ya da ifadeyi işaretleyiniz.

1. Hallo Peter, ich dachte du - - - - in Deutschland. (Konjunktiv II)

- A) ist B) war
C) wärest D) sei

2. A: - - - - kommst du?
B: Aus der Schule.

- A) Wohin B) Womit
C) Wie D) Woher

3. Ich - - - - nicht Computer spielen, wenn ich viele Hausaufgaben hätte.

- A) würde B) haben
C) hätte D) wird

4. Die Spieler, - - - - ein weißes Trikot an haben, sind Türke.

- A) der B) die C) das D) den

5. Susanne - - - - nicht so gut in Sport.

- A) bist B) sie C) ist D) sein

6. Meine Katze schläft - - - - meinem Bett.

- A) im B) auf C) ins D) zur

7. Der Mann, - - - - das Auto gehört, ist ein Musiker.

- A) der B) die C) das D) dem

8. Klaus und Ali haben die - - - - Schuhgröße.

- A) gleiche B) gleich
C) selber D) selbst

9. Mein Vater sagt, er - - - - gerne Pilot geworden.

- A) ist B) war C) sein D) wäre

10. Helga lernt türkisch, - - - - sie in Antalya leben möchte.

- A) weil B) denn
C) um D) aber

11. - - - - es regnet, spielen die Schüler Fußball.

- A) Denn B) Obwohl
C) Trotzdem D) So

12. Das schwarz- - - - - , schnell- - - - Auto gehört meinem Onkel.

- A) -en / -en B) -e / -en
C) -e / -e D) -en / -e

13. Ich kann dich - - - - Flughafen fahren.

- A) bei B) vor C) zur D) zum

14. Martin - - - - nicht im Bus.

- A) ist B) bist
C) sind D) sein

15. Ich habe gehört, dass Sie Lehrer - - - -.

- A) bist B) seiest
C) ist D) sind

16. Tina kommt - - - - Frankfurt.

- A) ins B) aus C) bei D) zu

17.



Der Ball ist - - - - dem Bett.

- A) unter B) in
C) auf D) neben

18. Düzgün bir cümle oluşturunuz.

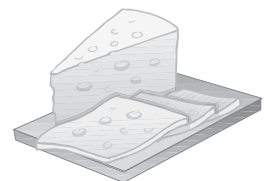
Klasse / bin / lch / 9. / in der
1 2 3 4 5

- A) 1 / 2 / 3 / 4 / 5
B) 3 / 4 / 1 / 2 / 5
C) 3 / 2 / 5 / 4 / 1
D) 4 / 3 / 1 / 5 / 2

19. Aşağıdaki sözcüklerden hangisinin Türkçe karşılığı doğru verilmiştir?

- A) das Kleid = çorap
B) kaufen = satın almak
C) sauber = kirli
D) der Pullover = pantolon

20.



Was ist das?

- A) Brot B) Schokolade
C) Käse D) Wasser

3. OTURUM

(500) FRANSIZCA – 6

1 - 18. sorularda boş bırakılan yere uygun gelen kelime ya da ifadeyi işaretleyiniz.

1. La mère de mon père est ma
-----.

- A) oncle B) tante
C) nièce D) grand-mère

2. Kemal est le frère de Zeynep et Zeynep est ----- de Kemal.

- A) la sœur B) l'oncle
C) le cousin D) le frère

3. ----- boivent trois tasses de lait par jour.

- A) Elle B) Il
C) Je D) Ils

4. A: Tu n'es pas mariée?
B: Si, je suis ----- . J'ai deux filles.

- A) célibataire B) fiancée
C) mariée D) veuve

5. Hier soir, ils ----- partis pour la France.

- A) ont B) vont
C) sont D) dont

6. L'école est ----- .

- A) un lieu de repos
B) un lieu pour le mariage
C) un lieu de vacances
D) un lieu de travail

7. Quand vous prenez votre voiture, ----- votre ceinture.

- A) a mis B) mettez
C) mettre D) met

8. Efe, on traverse la rue: -----
-moi la main!

- A) donné B) ayant donné
C) donner D) donne

9. Hier, Osman ----- chez le dentiste.

- A) est allé B) est allée
C) es allé D) suis allée

10. Il fait froid, ----- votre manteau!

- A) mangez B) suivez
C) mettez D) soyez

11. Nous écoutons de la musique en ----- du café au lait.

- A) mangent B) mangeons
C) manger D) buvant

12. En venant, ----- du fromage blanc.

- A) achète B) acheter
C) a acheté D) acheté

13. Pendant ses heures de loisir, Ahmet aime ----- à la bibliothèque.

- A) comprendre B) s'appeler
C) lire D) connaître

14. ----- Turquie, les enfants ne vont pas ----- l'école le samedi et le dimanche.

- A) Au / en B) En / à
C) À / en D) Aux / au

15. Nous passons à table, -----
-vous les mains!

- A) laver B) regardez
C) travaillez D) lavez

16. Ne mangez pas avec ----- .

- A) le ventre B) les doigts
C) les jambes D) le cou

17. Chez tes grands-parents, ----- sage!

- A) aie B) ayons
C) sois D) toi

18. Le petit déjeuner est servi ----- ma femme.

- A) par B) de C) des D) en

19. Verilen cümlelerin Türkçe dengini işaretleyiniz.

Cette pièce a été mise en scène par Monsieur Işık.

- A) Bay Işık bu oyunu sahneye koyuyor.
B) Bu oyun Bay Işık tarafından sahneye konuldu.
C) Bay Işık bu oyunu sahneye koymayacak.
D) Bu oyun Bay Işık tarafından sahneye konulacak.

20. Verilen cümlelerin Fransızca dengini işaretleyiniz.

Yarın gelmeyiniz, evimde olmayacağım.

- A) Si tu viens dimanche, je serai chez moi.
B) Ne venez pas demain, je ne vais pas être chez moi!
C) Ne venez pas aujourd'hui, je vais chez lui!
D) Demain matin, je vous attends chez moi.

3. OTURUM

(503) SEÇMELİ TARİH – 3

1. Osmanlı Devleti'ne "Halifelik" kurumu, aşağıdaki devletlerden hangisinin yıkılması sonucunda geçmiştir?

- A) Babür
- B) Memluk
- C) Altın Orda
- D) Büyük Selçuklu

2. Sazlıdere Savaşı'ndan sonra Osmanlı başkenti olan şehir, aşağıdakilerden hangisidir?

- A) İstanbul
- B) Bilecik
- C) Edirne
- D) Bursa

3. Osmanlılarda XVI. yüzyıla kadar aşağıdakilerden hangisi "sancağa çıkma" usulüne tabilerdi?

- A) Veziriazamlar
- B) Şehzadeler
- C) Padişahlar
- D) Kadılar

4. Osmanlı Devleti, 1402 - 1413 yılları arasında yaşanan Fetret Devri'ne aşağıdaki hangi savaş sonunda girmiştir?

- A) I. Kosova
- B) Niğbolu
- C) Çirmen
- D) Ankara

5. Aşağıdaki yerlerden hangisinin Osmanlı Devleti'nin eline geçmesiyle Osmanlılar, Avrupa Kıtası'nda ilk kez toprak sahibi olmuştur?

- A) Niş
- B) Edirne
- C) Çimpe Kalesi
- D) Niğbolu Kalesi

6. Karadeniz, Fatih Sultan Mehmet Dönemi'nde fethedilen aşağıdaki yerlerden hangisiyle bir Türk gölü hâline gelmiştir?

- A) Kastamonu
- B) Gökçeada
- C) Trabzon
- D) Kırım

7. Osmanlı Devleti'nin ilk dinsel ve sosyal nitelikli ayaklanması olan Şeyh Bedreddin İsyanı, hangi padişah döneminin önemli siyasi olayıdır?

- A) I. Murat
- B) I. Bayezit
- C) I. Mehmet
- D) I. Süleyman

8. I. Fransa
II. Venedik
III. Avusturya
IV. Hollanda

Osmanlı Devleti, yukarıda verilen devletlerden hangilerine ekonomik ayrıcalıklar (kapitülasyonlar) tanımıştır?

- A) Yalnız I
- B) I ve III
- C) I, II ve IV
- D) I, II, III ve IV

9. Osmanlı Devleti'nde "Halife" unvanını taşıyan ilk padişah, aşağıdakilerden hangisidir?

- A) Kanuni Sultan Süleyman
- B) Yavuz Sultan Selim
- C) Fatih Sultan Mehmet
- D) II. Abdülhamit

10. Aşağıdaki adalardan hangisi Fatih Sultan Mehmet Dönemi'nde fethedilmemiştir?

- A) Rodos
- B) Taşoz
- C) İmroz
- D) Eğriboz

11. Osmanlı Devleti Kasrışirin Antlaşması'nı, aşağıdaki devletlerden hangisiyle imzalamıştır?

- A) İran
- B) Venedik
- C) Lehistan
- D) Avusturya

12. Aşağıdakilerden hangisi Kapıkulu Ocakları'nın yaya birliklerinden değildir?

- A) Topçular
- B) Cebeciler
- C) Sipahiler
- D) Yeniçeriler

13. "Osmanlılarda gayrimüslimlere ait olan topraklara - - - - adı veriliyordu."

Verilen bilgi cümlesinin doğru olabilmesi için boş bırakılan yere, aşağıdakilerden hangisi yazılmalıdır?

- A) Vakıf Topraklar
- B) Haracı Topraklar
- C) Öşri Topraklar
- D) Miri Araziler

14. Avrupa'da sanata ve bilime önem veren, bilgin ve sanatçıları himaye eden "Mesen Sınıfı", aşağıdaki gelişmelerden hangisi sonunda oluşmuştur?

- A) Rönesans hareketleri
- B) Reform hareketleri
- C) Yüzyıl Savaşları
- D) Coğrafi keşifler

15. Aşağıdakilerden hangisi İngiliz hümanistidir?

- A) Şeksper
- B) Erasmus
- C) Monteyn
- D) Servantes

16. I. Mercidabık Savaşı
II. Çaldıran Savaşı
III. Ridaniye Savaşı
IV. Turnadağ Savaşı

Osmanlı hükümdarı Yavuz Sultan Selim, yukarıdaki savaşlardan hangilerini Memluk Devleti ile yapmıştır?

- A) Yalnız I
- B) I ve III
- C) I, II ve III
- D) I, II, III ve IV

17. Avrupa'da, aşağıdaki gelişmelerden hangisinin sonucunda mezhep birliği bozulmuştur?

- A) Haçlı Seferleri
- B) İstanbul'un fethi
- C) Reform hareketleri
- D) Rönesans hareketleri

3. OTURUM

(504) SEÇMELİ TARİH – 4

18. Sarayda eğitilmiş cariyelerle evlenme geleneğine uymayarak Şeyhülislam Esat Efendi'nin kızıyla evlenen ve böylece sarayı halka açan Osmanlı padişahı, aşağıdakilerden hangisidir?

- A) II. Osman B) IV. Murat
C) I. Mustafa D) IV. Mehmet

19. Aşağıdakilerden hangisi, "Devlet demek ben demektir." sözü ile mutlakiyet uygulamasını doruğa çıkarmıştır?

- A) Bizans İmparatoru II. Manuel
B) Macar Kralı Yanoş
C) Fransa Kralı VIII Şarl
D) Fransa Kralı XIV. Lui

20. • Asıl adı Buhurizade Mustafa Efendi olmakla birlikte şiirlerinde kullandığı mahlası (takma ad) ile ün yapmıştır.
• Türk besteci, şair ve hattat olarak tanınır.
• 1630 veya 1640'lı yıllarda doğmuş, 1711 ya da 1712 yıllarında İstanbul'da ölmüştür.
• Padişah IV. Mehmet Dönemi'nde hanende olarak saray fasıllarına katılmıştır.
• 1000'i aşkın beste yaptığına dair rivayetler olsa da günümüze 42 dolayında yapıtı ulaşmıştır.

Hakkında kısa bilgi verilen ünlü besteci, aşağıdakilerden hangisidir?

- A) Naima B) Nef'i
C) Nabi D) İtri

1. Osmanlı Devleti, XVIII. yüzyılın başlarında "- - I - -" politikası izlerken, bu yüzyılın sonunda ise "- - II - -" politikası izlemeye başlamıştır.

Verilen cümlede numaralandırılarak boş bırakılan yerlere, aşağıdakilerden hangileri yazılırsa, bilgi doğru olur?

| I | II |
|------------------------------------|---------------------------------|
| A) denge | yumuşama |
| B) yumuşama | saldırı |
| C) kaybettiği toprakları geri alma | denge |
| D) yumuşama | kaybettiği toprakları geri alma |

2. Osmanlı Devleti'nde açılan Türk matbaasında ilk olarak aşağıdaki hangi eserler basılmıştır?

- A) Volkan Gazetesi
B) Yusuf ile Züleyha Mesnevisi
C) "Çingiraklı Tatar" adlı mizah dergisi
D) "Vankulu" adlı Türkçe - Arapça sözlük

3. Yakın Çağ'ın başlangıcı sayılan tarihî gelişme, aşağıdakilerden hangisidir?

- A) Yazının icadı
B) Fransız İhtilali
C) Sanayi İnkılabı
D) İstanbul'un fethi

4. Tarihe "Edirne Vakası" olarak geçen 1703 tarihli isyan sonucunda tahttan indirilen Osmanlı padişahı, aşağıdakilerden hangisidir?

- A) II. Mustafa B) I. Abdülhamit
C) III. Ahmet D) II. Süleyman

5. "Baytar Mektebi", aşağıdaki hangi alanda eğitim vermek üzere açılmış bir okuldur?

- A) Tıp B) Hukuk
C) Eczacılık D) Veterinerlik

6. Bulgaristan, aşağıdaki antlaşmalardan hangisiyle üç bölgeye ayrılmıştır?

- A) Zıştovi B) Bükreş
C) Berlin D) Sevr

7. Yirmi sekiz Çelebi Mehmet Lale Devri'nde, aşağıdaki şehirlerden hangisine elçi olarak gönderilmiştir?

- A) Roma B) Paris
C) Viyana D) Moskova

8. Fransızlar, 1802 yılında imzaladıkları El - Arış Antlaşması ile aşağıdaki yerlerden hangisini Osmanlılara geri vermek zorunda kalmışlardır?

- A) Mısır B) Eflak
C) Kırım D) Hicaz Bölgesi

9. "1868 - 1878 yılları arasında Ahmet Cevdet Paşa başkanlığındaki ilmî bir heyet tarafından İslam hukukuna bağlı kalınarak hazırlanan - - - - , şeri mahkemelerde 1877 - 1926 yılları arasında hukuki kaynak olarak kullanılmıştır."

Verilen cümlelerin doğru olabilmesi için boş bırakılan yer, aşağıdakilerden hangisiyle tamamlanmalıdır?

- A) Risale
B) Mecelle
C) Kanunname
D) Teşkilâtiesasiye

10. Kırım Savaşı, aşağıdaki antlaşmalardan hangisiyle sona ermiştir?

- A) Hünkâr İskelesi
B) Edirne
C) Atina
D) Paris

3. OTURUM

11. Aşağıdakilerden hangisi XIX. yüzyılda yönetim alanında yapılan ıslahatlardan biri değildir?

- A) Divan teşkilatının kaldırılarak kabine sistemine geçilmesi
- B) Köy ve mahallelere muhtar tayin edilmesi
- C) İlköğretimin zorunlu hâle getirilmesi
- D) Nazırlıkların kurulması

12. "Sekbanıcedit" adlı ordu, hangi Osmanlı padişahı zamanında kurulmuştur?

- A) II. Mahmut
- B) Abdülaziz
- C) Abdülmecit
- D) II. Abdülhamit

13. Osmanlı tarihinde "93 Harbi" olarak bilinen savaş, aşağıdaki devletlerden hangisidir?

- A) 1768 - 1774 Osmanlı - Rus Savaşı
- B) 1877 - 1878 Osmanlı - Rus Savaşı
- C) 1853 - 1856 Kırım Savaşı
- D) 1914 - 1918 I. Dünya Savaşı

14. Rusya, Osmanlı yönetiminde bulunan Ortodoksların haklarını koruyabilme hakkını, aşağıdaki antlaşmalardan hangisiyle elde etmiştir?

- A) Karlofça
- B) Pasarofça
- C) Hünkâr İskelesi
- D) Küçük Kaynarca

15. Aşağıdaki Osmanlı camilerinden hangisi ampir üslubunda yapılmamıştır?

- A) Ortaköy Camisi
- B) Nusretiye Camisi
- C) Süleymaniye Camisi
- D) Dolmabahçe Camisi

16. Osmanlı ülkesindeki Robert Koleji, aşağıdaki hangi devlet tarafından açılmış bir eğitim kurumudur?

- A) Amerika Birleşik Devletleri
- B) İngiltere
- C) Fransa
- D) İran

17. Beşiktaş, Fenerbahçe ve Galatasaray spor kulüpleri, hangi yüzyılın başında kurulmuştur?

- A) XVII. yy
- B) XVIII. yy
- C) XIX. yy
- D) XX. yy

18. Osmanlı Devleti, Trablusgarp ve Bingazi şehirlerini Uşi Antlaşması'yla, aşağıdaki devletlerden hangisine bırakmak zorunda kalmıştır?

- A) İtalya
- B) Fransa
- C) Rusya
- D) İngiltere

19. I. Dünya Savaşı sonunda İtilaf Devletleri ile İttifak Devletleri arasında imzalanan ilk antlaşma, aşağıdakilerden hangisidir?

- A) Serv Antlaşması
- B) Versay Antlaşması
- C) Triyanon Antlaşması
- D) Sen Jermen Antlaşması

20. Osmanlı Devleti'nin I. Dünya Savaşı'na girmesi, savaşın seyri üzerinde nasıl bir etkisi olmuştur?

- A) Savaş kısa sürede bitmiştir.
- B) İtilaf Devletleri güç kaybetmiştir.
- C) Savaş, daha geniş coğrafyaya yayılmıştır.
- D) Amerika Birleşik Devletleri'nin savaşa girmesine neden olmuştur.

(505) SEÇMELİ COĞRAFYA – 3

1. Magmanın - - - - soğuyup katılaşmasıyla oluşan kayalara iç püs-kürük kayalar denir.

Cümlede boş bırakılan alana aşağıdakilerden hangisinin gelmesi uygun olur?

- A) Yeryüzünde
- B) Atmosferde
- C) İç çekirdekte
- D) Yerin derinliklerinde

2.



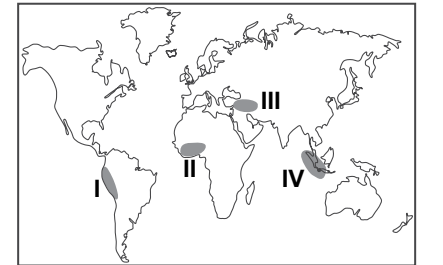
Yukarıdaki gösterilen yeryüzü şekli aşağıdakilerden hangisidir?

- A) Tor topoğrafyası
- B) Dev kazanı
- C) Peribacaları
- D) Traverten

3. İki kıtasal levhanın birbirine yaklaştığı yerlerde aşağıdakilerden hangisi görülmez?

- A) Litosferin kalınlaşması
- B) Sıra dağların oluşması
- C) Deprem ihtimalinin artması
- D) Volkanik faaliyetlerin artması

4.



Deprem kuşaklarının dağılışı dikkate alındığında haritada numaralandırılarak verilen yerlerden hangisinde deprem ihtimali daha azdır?

- A) I
- B) II
- C) III
- D) IV

3. OTURUM

5. Dünyadaki en büyük su kütlesi aşağıdakilerden hangisidir?

- A) Göller B) Buzullar
C) Okyanuslar D) Denizler

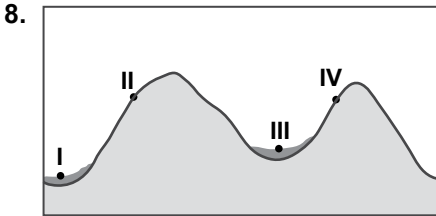
6. Set gölleri, su kütlelerinin önünün çeşitli nedenlerle kapanması sonucunda oluşur.

Buna göre, aşağıdakilerden hangisi set göllerinin oluşmasına neden olan durumlardan değildir?

- A) Heyelan
B) Yerkabuğu hareketleri
C) Volkan patlaması
D) Dalga biriktirmesi

7. Aşağıdaki kaynak türlerinden hangisinde sular insanlar tarafından yapılan sondajla çıkarılmaktadır?

- A) Fay kaynağı
B) Karstik kaynak
C) Artezyen kaynağı
D) Gayzer kaynağı



Şekilde I ve III numaralı yerlerdeki toprak örtüsünün II ve IV numaralı yerlerdeki toprak örtüsünden daha kalın olması aşağıdakilerden hangisinin etkisine örnektir?

- A) Zamanın
B) Canlıların
C) Ana kayanın
D) Topoğrafyanın

9. Buzulların taşıyıp biriktirdiği malzemelerden oluşan topraklara ne denir?

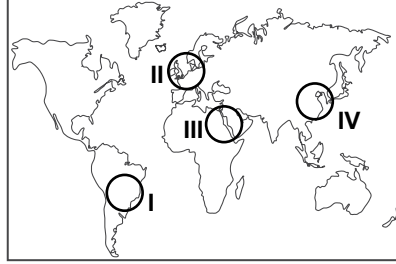
- A) Podzol toprakları
B) Terra-rossa
C) Çernezyom
D) Moren

10. • Görüldüğü yerler her mevsim yağışlı olup yıllık yağış miktarı 2000 mm'yi aşar
• Yıl boyunca yeşil kalan çok zengin bitki türlerinden oluşur
• Amazon ve Kongo havzaları ile Endonezya adalarında görülür

Yukarıda bazı özellikleri verilen bitki örtüsü aşağıdakilerden hangisidir?

- A) Tayga ormanları
B) Muson ormanları
C) Ekvatorial yağmur ormanları
D) Orta kuşağın karışık ormanları

11. Sanayi devrimi dünyadaki nüfus artış hızında sıçramaya neden olan üç olaydan en önemlisidir.



Buna göre, sanayi devriminin nüfus artışına etkisi ilk önce haritada taralı alanlardan hangisinde görülmüştür?

- A) I B) II C) III D) IV

12. İnsanlar nüfus artışının neden olduğu olumsuzlukları en aza indirebilmek için birtakım çözümler önerileri geliştirmişlerdir.

Buna göre, aşağıdaki nüfus artışının neden olduğu olumsuz durum ve çözüm yolları eşleştirmelerinden hangisi yanlıştır?

- A) Tüketimin artması – Tasarruf ve verimliliğe önem verilmesi
B) Göçlerin artması – Göç alan yerlerde yatırımların durdurulması
C) İşsizliğin artması – Sanayi yatırımlarının ve girişimciliğin desteklenmesi
D) Eğitim ve sağlık hizmetlerinin aksaması – Altyapı hizmetlerine ağırlık verilmesi

13. Ortadoğu ve Afrika ülkeleri nüfus artış hızının en yüksek olduğu yerlerdir.

Bu durumun temel nedeni aşağıdakilerden hangisidir?

- A) Doğum oranlarının yüksek olması
B) Kişi başına düşen milli gelirin az olması
C) Başka bölgelerden göç alması
D) Sağlık hizmetlerinin yetersiz olması

14. Türkiye'deki yer şekillerinin genel özellikleri arasında aşağıdakilerden hangisi gösterilemez?

- A) Ortalama yükseltisi 1000 m'nin üzerindedir.
B) Çoğunlukla tersiyerdeki alp kıvrımları sonucunda oluşmuştur.
C) Dağlar genellikle kuzey-güney doğrultulu uzanmaktadır.
D) Kıyı bölgelerde dağlar genellikle kıyıya paralel uzanmaktadır.

15. Dünya'nın nüfus özellikleri ile ilgili aşağıda verilenlerden hangisi yanlıştır?

- A) Üzerinde devamlı yerleşme olan kıtalar içerisinde en az nüfus Okyanusya'dadır.
B) Kuzey Yarımküre'de nüfus miktarı Güney Yarımküre'den fazladır.
C) Nüfusun büyük çoğunluğu denize uzak iç kesimlerde yaşamaktadır.
D) Dünya nüfusunun yarısından fazlası Asya Kıtası'nda yaşamaktadır.

16. Gelişmiş ülkelerde nüfus artış hızının düşük olmasının nedenleri arasında aşağıdakilerden hangisi gösterilemez?

- A) Eğitim seviyesinin yüksek olması
B) Tarımsal verimliliğin yüksek olması
C) Kadınların çalışma hayatına girmesi
D) Şehirleşme oranlarının yüksek olması

3. OTURUM

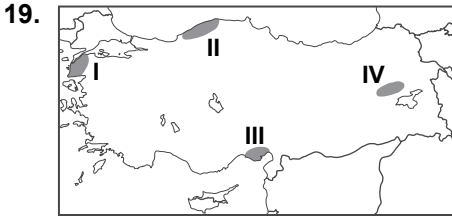
(506) SEÇMELİ COĞRAFYA – 4

17. Aşağıdakilerden hangisi beyin göçüne örnek gösterilebilir?

- A) Hindistan'daki bilgisayar mühendislerinin çalışmaya ABD'ye gitmesi
- B) Lozan Barış Antlaşması'yla Türkler ile Rumların karşılıklı yer değiştirmeleri
- C) Amerika'nın keşfiyle Avrupa'dan bu kıtaya yapılan göçler
- D) Türklerin Orta Asya'dan kuraklık nedeniyle yaptığı göçler

18. İnsanlık tarihinde aşağıda verilenlerden hangisi daha önce gerçekleşmiştir?

- A) Yerleşik hayata geçilmesi
- B) Hayvanların evcilleştirilmesi
- C) İlk devletlerin ortaya çıkması
- D) Avcılık ve toplayıcılığın başlaması



Haritada verilen yerlerden hangisinde yıllık yağış miktarı daha fazladır?

- A) I B) II C) III D) IV

20. Fiziksel ayrışmanın gücü soğuk ve kurak iklim bölgelerinde daha fazla olmaktadır.

| Bölgeler | Yıllık Yağış Miktarı (mm) | Yıllık Sıcaklık Ortalaması (°C) |
|----------|---------------------------|---------------------------------|
| I | 600 | 10 |
| II | 1000 | 15 |
| III | 1800 | 20 |
| IV | 950 | 14 |

Buna göre tabloda yıllık yağış ve sıcaklık ortalamaları verilen bölgelerden hangisinde fiziksel ayrışmanın gücü daha fazladır?

- A) I B) II C) III D) IV

1. Aşağıdaki toprak türlerinden hangisinin ülkemizin iç kesimlerindeki yayılış alanı daha fazladır?

- A) Çernezyom
- B) Kırmızı Akdeniz toprakları
- C) Kahverengi bozkır toprakları
- D) Kahverengi orman toprakları

2. Eğirdir, Burdur, Beyşehir ve Acıgöl'ün içinde bulunduğu yere aşağıdaki isimlerden hangisi verilmektedir?

- A) Göller Yöresi
- B) Menteşe Yöresi
- C) Ergene Havzası
- D) Biga Yarımadası

3. Aşağıdakilerden hangisi sanayi şehri olarak nitelendirilemez?

- A) Bursa B) Kocaeli
- C) Adana D) Siirt

4. Hinterland (art bölge) ekonomik olarak limanı besleyen, limanla mal gönderen ya da mal temini yapan alanlardır.

Buna göre, aşağıdaki şehirlerden hangisi İzmir limanının hinterlandının dışındadır?

- A) Samsun B) Kütahya
- C) Manisa D) Denizli

5. Türkiye dünyanın en eski yerleşim alanlarından biridir.

Bu durum üzerinde aşağıdakilerden hangisinin etkisi yoktur?

- A) İkliminin elverişli olmasının
- B) Levha sınırında yer almasının
- C) Su kaynaklarının yeterli olmasının
- D) Verimli tarım alanlarının bulunmasının

6. Türkiye'nin nüfus yapısında 1927-2015 yılları arasında meydana gelen değişim ile ilgili aşağıdakilerden hangisi söylenemez?

- A) Nüfus miktarı artmıştır.
- B) Eğitim seviyesi yükselmiştir.
- C) Bebek ölüm oranları artmıştır.
- D) Ortalama yaşam süresi uzamıştır.

7. Aşağıdakilerden hangisi yoğun göç veren iller arasında yer almaz?

- A) Ağrı B) Sivas
- C) Sinop D) Bursa

8. Aşağıdakilerden hangisi dünya ticaret yollarında daha köklü değişikliklere neden olmuştur?

- A) Coğrafi keşifler
- B) Birinci dünya savaşı
- C) Yerleşik hayata geçilmesi
- D) Derebeyliklerin ortadan kalkması

9. Günümüzde insan ve toplumlararası haberleşme ve iletişimde aşağıdakilerden hangisinin etkisi daha azdır?

- A) Telefon B) Telgraf
- C) İnternet D) Televizyon



Haritada gösterilen su yolu aşağıdakilerden hangisinde verilmiştir?

- A) Korint Kanalı
- B) Süveyş Kanalı
- C) Hürmüz Boğazı
- D) Cebelitarık Boğazı

3. OTURUM

11. Aşağıdakilerden hangisi **ülkemizde erozyon şiddetinin artması halinde gerçekleşecek durumlardan değildir?**

- A) Tarımsal üretimin azalması
- B) Ekolojik dengenin bozulması
- C) Bitki türü çeşitliliğinin artması
- D) Besin maddesi açığının başlaması

12. Aşağıdaki coğrafi faktörler ile sebep olduğu doğal afet eşleştirmelerinden hangisi **yanlış** verilmiştir?

- A) Yer şekilleri - Heyelan
- B) Jeolojik yapı - Depremler
- C) İklim özellikleri - Kuraklık
- D) İnsan faktörü - Volkanizma

13. • Toprağı korumak
• Doğal yaşamı zenginleştirmek
• Mobilya ve kağıt sanayi hammaddesini artırmak

Yukarıdaki amaçları gerçekleştirebilmek için aşağıdakilerden hangisinin yapılması daha uygun olur?

- A) Tarım alanlarını genişletmek
- B) Orman alanlarını genişletmek
- C) Akarsular üzerinde barajlar yapmak
- D) Yerleşim alanlarını genişletmek

14. • Dünyadaki en geniş yayılış alanı Türkiye olup kıyıda 1000-1200 metrelere kadar çıkar.
• Akdeniz ve Ege bölgelerinde geniş alan kaplar.
• Işığı seven ve hızlı büyüyen bir ağaç türüdür.

Yukarıda bazı özellikleri verilen ağaç türü aşağıdakilerden hangisidir?

- A) Fıstık çamı
- B) Kızılcım
- C) Kayın
- D) Meşe

15. Bir grup öğrenci kır yürüyüşüne çıktığı yerde yabancı zeytin, mercin, keçiboynuzu, sandal, koca yemiş, defne, sakız ve menengiç türlerine rastlamışlardır.

Bu öğrenci grubu hangi bitki topluluğunun yayılış alanında yürüyüş yapmıştır?

- A) Orman
- B) Bozkır
- C) Çayır
- D) Maki

16. Aşağıdakilerden hangisi **hammadesi toprak olan sanayi ürünlerine örnek gösterilemez?**

- A) Çimento
- B) Seramik
- C) Plastik
- D) Tuğla

17. **Marmara Denizi ile ilgili aşağıda verilenlerden hangisi yanlışlıştır?**

- A) Yüzölçümü en küçük olan denizimizdir.
- B) Tamamen Türkiye sınırları içerisinde yer alır.
- C) Kıyı uzunluğu en fazla olan denizdir.
- D) Karadeniz ile Ege Denizi arasındaki ulaşım bu deniz üzerinden sağlanır.

18. **Aras ve Kura nehirleri aşağıdakilerden hangisine dökülmektedir?**

- A) Basra Körfezi
- B) Hazar Denizi
- C) Karadeniz
- D) Akdeniz

19. **Aşağıdakilerden hangisi afet sonrasında yapılması gerekenlerdendir?**

- A) Afet yönetimi ve planlamasının yapılması
- B) Afet riski olan yerlerin belirlenmesi
- C) Afetlere karşı eğitim ve tatbikat yapılması
- D) Yiyecek, su ve ilaç dağıtımının yapılması

20. **Aşağıdakilerden hangisi depreme karşı alınacak tedbirler arasında yer almaz?**

- A) Ağaçlandırma çalışmalarının yapılması
- B) Binaların deprem yönetmeliğine uygun yapılması
- C) Arama ve kurtarma ekiplerinin kurulması
- D) Halkın depreme karşı alınacak tedbirler konusunda bilinçlendirilmesi

(533) HZ. MUHAMMED'İN HAY. – 3

1. **İslam öncesi Arabistan Yarımadasındaki sosyal yapı ile ilgili verilen bilgilerden hangisi doğrudur?**

- A) Kanun karşısında herkes eşit sayılırdı.
- B) Halkın çoğunluğu Haniflerden oluşmaktaydı.
- C) Kız çocukları övünç kaynağı olarak görülürdü.
- D) Cömertlik, ahde vefa ve misafirperverliğe önem verilirdi.

2. **Hz. Peygambere "Muhammed" ismini kim vermiştir?**

- A) Dedesi Abdülmuttalip
- B) Amcası Ebu Talip
- C) Babası Abdullah
- D) Amcası Abbas

3. **Hz. Muhammed (sav.)'in sütanneye verilme nedeni aşağıdakilerden hangisidir?**

- A) Dedesinin torununu cahiliye adetlerinden koruma arzusu
- B) Yeni doğan çocukların sütanneye verilme geleneği
- C) Annesinin çocuğuna bakamayacağı endişesi
- D) Çocuğu çöl şartlarına alıştırmaya isteği

4. **Arap kabilelerinin yasak aylarda yaptığı savaşlara ne isim verilirdi?**

- A) Ficar Savaşları
- B) Kabile Savaşları
- C) Gazve
- D) Cihat

3. OTURUM

5. Hz. Peygamberin “Allah bana ondan daha hayırlısını vermedi. Halk bana inanmazken o inandı. Herkes bana yalancı derken o doğru söylediğimi kabul etti. Kimse bana bir şey vermezken o beni malıyla destekledi ...” sözüyle kastettiği eşi aşağıdakilerden hangisidir?
- A) Hz. Ümmü Habibe
B) Hz. Sevde
C) Hz. Aişe
D) Hz. Hatice
6. Hz. Peygamberin de üyesi olduğu Hılfu'l Fudul cemiyetinin kuruluş amacı aşağıdakilerden hangisidir?
- A) Kâbe'nin korunması ve bakımını sağlamak
B) Kabilelerin birbirleriyle savaşmalarını önlemek
C) Haksızlığa uğrayan kimselerin hakkını savunmak
D) Mekke'ye gelen misafirlerin ihtiyaçlarını karşılamak
7. “(Ey Muhammed!) Sana emrolunanı açıkça bildir ve Allah'a ortak koşanlara aldırış etme.” (Hicr suresi, 94. ayet)
- Bu ayetin indirilmesi ile başlayan dönem aşağıdakilerden hangisidir?**
- A) Açık davet dönemi
B) Gizli davet dönemi
C) Medine dönemi
D) Boykot dönemi
8. Bilal-i Habeşî'yi Ümeyye bin Halef'ten satın alarak hürriyetine kavuşturan kişi aşağıdakilerden hangisidir?
- A) Hz. Osman
B) Hz. Ebubekir
C) Hz. Musâb bin Umeyr
D) Hz. Muhammed
9. İslam tarihinde inancından dolayı şehit edilen ilk Müslüman erkek aşağıdakilerden hangisidir?
- A) Hz. Hamza
B) Hz. Cafer
C) Hz. Abdullah b. Revâha
D) Hz. Yasir
10. Aşağıdaki olayların hangisinden sonra Müslümanlara Medine'ye hicret yolu açılmıştır?
- A) I. Akabe Biati
B) II. Akabe Biati
C) Hz. Hatice'nin vefatı
D) Habeşistan'a hicret
11. Cuma namazı nerede ve ne zaman farz kılınmıştır?
- A) Mekke-621
B) Medine-623
C) Beni Salim yurdu-622
D) Taif-620
12. Bedir, Uhut ve Hendek savaşlarının yapılış tarihleri hangisinde doğru olarak verilmiştir?
- A) 624-625-627
B) 622-624-627
C) 625-627-629
D) 624-626-630
13. Müslümanlar Hudeybiye Antlaşmasını aşağıdakilerden hangisi ile yapmıştır?
- A) Hevazin kabilesi
B) Mekkeli müşrikler
C) Medineli Yahudiler
D) Evs ve Hazreç kabileleri
14. Hz. Peygamber'in sağlıkla ilgili hadislerinin bütününe ne denir?
- A) Tıbb-ı Nebevi
B) Hilye-i Şerif
C) Kitabü'ş-Şifa
D) El-Kanun fit-Tıp
15. “Bir yerde bulaşıcı hastalık görürseniz, oraya girmeyiniz. Bulaşıcı hastalık bulunan bir yerdeyseniz oradan da çıkmayınız.”
- Bu hadiste Peygamber Efendimiz aşağıdakilerden hangisini vurgulamıştır?**
- A) Bulaşıcı hastalıkların tedavisinin yapılmasını
B) Hasta olanların toplumdan dışlanmamasını
C) Fert ve toplum sağlığının korunmasını
D) Sağlığın kıymetinin bilinmesini
16. Aşağıdakilerden hangisi Hz. Peygamberin yapılmasını tavsiye ettiği sporlardan biri değildir?
- A) Koşu
B) Yüzme
C) Atıcılık
D) Boks
17. İslam'da alkollü içeceklerin yasaklanmasının asıl sebebi aşağıdakilerden hangisidir?
- A) Bağımlılık yapması
B) Sağlığa zarar vermesi
C) Tedavisinin zor olması
D) Toplumun huzurunu bozması
18. İslam'a göre aşağıdakilerden hangisi yanlıştır?
- A) Hastalıklara sabredip umutsuz olmamak gerekir.
B) Tedavi için doktorların tavsiyesine uyulmalıdır.
C) Hastalıklar müminlerin günahlarına kefarettir.
D) Hastalıklar karşısında kişinin öldürülmeyi istemesi mubahtır.
19. İnsanın, başkalarının sahip olduğu mal, makam ve ilim gibi kıymetleri kaybetmesini ve bu kişilerin kötü duruma düşmesini şiddetli bir şekilde istemesidir.
- Tanımı yapılan kavram aşağıdakilerden hangisidir?**
- A) Gıpta
B) Haset
C) Nankörlük
D) Savurganlık
20. “Ey insanlar, takat getireceğiniz işleri yapın. Zira siz ibadetten usanmadıkça Allah da sevap yazmaktan usanmaz. Allah'ın en çok hoşuna giden amel, az da olsa devamlı olanıdır.”
- Bu hadiste vurgulanan aşağıdakilerden hangisidir?**
- A) İbadetlerde dengeli davranılması gerektiği
B) Allah'ın, yapılan ibadetlerin karşılığını vereceği
C) Zorlanılan ibadetlerden uzak durulması gerektiği
D) Allah'ın kula gücünün üstünde yükler yüklemeyeceği

3. OTURUM

(534) HZ. MUHAMMED'İN HAY. – 4

1. Aşağıdaki ayetlerden hangisi inanç ve ibadet özgürlüğü ile ilgili değildir?

- A) "Dinde zorlama yoktur, artık hak ile batıl iyice ayrılmıştır..." (Bakara suresi, 256. ayet)
- B) "Rabbimiz! Bize dünyada da güzellik ver, ahirette de güzellik ver, bizi ateşin azabından koru!..." (Bakara suresi, 201. ayet)
- C) "De ki: Hakikat Rabbinizdendir. Artık dileyen İman etsin, dileyen inkâr etsin..." (Kehf suresi, 29. ayet)
- D) "Ey Muhammed! Sen öğüt ver çünkü sen ancak öğüt vericisin. Onların üzerine zorlayıcı değilsin." (Ğâşiyeye suresi, 21-22. ayetler)

2. Hz. Peygamber Yemen'de yaşayan Necran Hristiyanlarını mes-citte karşılamış ve görüş alışverişinde bulunduktan sonra, onların ibadetlerini Mescid-i Nebevide yapmalarına müsaade etmiştir.

Peygamberimizin bu tutumu O'nun hangi özelliğine örnektir?

- A) Adaletle olan bağlılığına
- B) İstişareye verdiği öneme
- C) İnsanlara olan merhametine
- D) İbadet özgürlüğüne olan saygısına

3. Hz. Muhammed (sav.) hayatının her döneminde çalışmış ve çalışmayı da teşvik etmiştir. Herkesin hayatının idamesi için çalışmasına müsaade edilmesini ve emeğinin karşılığının verilmesini istemiştir.

Bu metinde Hz. Muhammed (sav.)'in temel hak olarak gördüğü konu aşağıdakilerden hangisidir?

- A) Ekonomik Özgürlük
- B) Seyahat Özgürlüğü
- C) İnanç Özgürlüğü
- D) İfade Özgürlüğü

4. Kişinin, bir başkasına zarar vermeden düşündüğünü ve dilediğini yapabilmesine ne denir?

- A) Hak
- B) Hukuk
- C) Özgürlük
- D) Din

5. Temel haklar ile ilgili aşağıda verilen bilgilerden hangisi yanlıştır?

- A) Vazgeçilemez, devredilemez ve dokunulmazdır.
- B) Genel olarak anayasa ve yasalarla belirlenmiştir.
- C) Özgürlüklerin kullanılabilmesi için kişilere verilen yetkililerdir.
- D) Bireylerin toplumsal konumuna göre değişiklik gösterir.

6. "Bir Müslümanın bir başkasının evinin içini gözetlemesi helal değildir. Böyle yapan günah işlemiş olur."

Verilen hadis aşağıdaki haklardan hangisi ile ilgilidir?

- A) Özel teşebbüs
- B) Özel hayatın gizliliği
- C) Özel mülkiyet edinme
- D) Düşünce ve ifade özgürlüğü

7. Özgürlüklerin kullanımı ile ilgili olarak aşağıdakilerden hangisi söylenemez?

- A) Temel özgürlükler insanın ayrılmaz bir parçasıdır.
- B) Özgürlükleri teminat altına almak, devletin görevidir.
- C) Özgürlükler ancak çoğunluğun arzularına uygun olarak kullanılabilir.
- D) Özgürlükleri kullanma konusunda hiçbir vatandaşa ayrıcalık tanınmaz.

8. İslam dinine göre aşağıdakilerden hangisi özgürlük olarak değerlendirilemez?

- A) Çocukları zararlı alışkanlıklara teşvik etmek
- B) Gençlerin meslek seçimlerine rehberlik etmek
- C) Farklı inançlara sahip insanların ibadetlerini engellemek
- D) Kendisi gibi düşünmeyen insanların fikirlerine saygı göstermek

9. "...Muhakkak ki Allah katında en değerli olanınız, O'na karşı gelmekten en çok sakınanınızdır. Şüphesiz Allah bilendir, her şeyden haberdardır." (Hucurât suresi, 13. ayet)

Bu ayetten aşağıdakilerden hangisi çıkarılamaz?

- A) Kullukta kadın ve erkeğin eşit olduğu
- B) Eşlerin birbirleri üzerinde hakları olduğu
- C) Allah'ın emirlerine uyulması gerektiği
- D) Her şeyin Allah'ın bilgisi dâhilinde olduğu

10. İslam'da kadının yeri ve değeri ile ilgili aşağıda verilen bilgilerden hangisi yanlıştır?

- A) Kullukta erkek ile aynı haklara sahiptir.
- B) Her türlü saygı ve sevgiye layık görülmüştür.
- C) Sosyal hayatta aktif rol almaları yasaklanmıştır.
- D) Ekonomik hak ve özgürlükleri güvence altına alınmıştır.

11. Hz. Peygamber geceleri namaz kılarken kible tarafında uyuyan Hz. Aişe'yi uyandırmamaya özen gösterirdi. Sefere çıkarken en son Hz. Fatıma ile vedalaşır ve dönerken de önce onun evine gidip hal hatırını sorardı.

Bu metinden Hz. Peygamber ile ilgili aşağıdaki sonuçlardan hangisi çıkarılamaz?

- A) Aile fertlerine değer verdiği
- B) Özel yaşamın gizliliğine saygı duyduğu
- C) İbadet ederken başkalarını rahatsız etmediği
- D) Aile bireylerinin durumlarıyla yakından ilgilendiği

12. İslam'a göre aşağıdaki ifadelerden hangisi doğrudur?

- A) Kadın ve erkek aynı özden yaratılmıştır.
- B) Kadına sadece annelik rolü layık görülmüştür.
- C) Eşler birbirlerinin günahlarından sorumludurlar.
- D) Kadın ve erkeğe aynı sorumluluklar yüklenmiştir.

3. OTURUM

13. Kadınlar ile ilgili aşağıdakilerden hangisi Hz. Muhammed (sav.) tarafından yasaklanmıştır?

- A) İstekleri dışında evlendirilmeleri
- B) Cemaatle namaz kılmaları
- C) İstişareye katılmaları
- D) İlim tahsil etmeleri

14. Hz. Peygamber eş seçiminde aşağıdaki kıstaslardan hangisini tavsiye etmiştir?

- A) Güzellik
- B) Zenginlik
- C) Dindarlık
- D) Asalet

15. Hz. Peygamber: "Her kim ergenlik çağına kadar iki kız çocuğunun bakımını, nafakasını, terbiye ve yetiştirilmesini üzerine alıp gereğini yerine getirirse o kimse kıyamet gününde (parmaklarını birbirine kavuşturarak) benimle böyle beraber olacaktır." buyurmuştur.

Bu hadiste Peygamber Efendimiz aşağıdakilerden hangisini vurgulamıştır?

- A) Ebeveynlerin ergenlik çağından sonra çocuklarına bakmak zorunda olmadıklarını
- B) Kız çocuklarına sahip çıkılıp güzel bir şekilde eğitilmesini
- C) Hesabı verilemeyecek davranışlardan kaçınılmasını
- D) Cennette Peygamber ile beraber olmanın şartlarını

16. "O müminler öyle kimselerdir ki eğer kendilerine yeryüzünde bir iktidar verirsek namazı dosdoğru kılarlar, zekâtı verirler, marufu (iyi ve güzel şeyleri) emrederler, münkerden (kötü ve çirkin olan şeylerden) vazgeçirmeye çalışırlar..." (Hac suresi, 41. ayet)

Bu ayette yöneticilerin sahip olması gereken özelliklerden hangisine değinilmemiştir?

- A) Liyakate önem verme
- B) İbadetleri yerine getirme
- C) İnsanları doğruluğa sevk etme
- D) Kötülüğe engel olmaya çalışma

17. "Allah size, mutlaka emaneti ehli olanlara vermenizi ve insanlar arasında hükmettiğiniz zaman adaletle hükmetmenizi emreder..." (Nisa suresi, 58. ayet)

Bu ayette aşağıdakilerden hangileri emredilmektedir?

- A) Bağlılık ve itaat
- B) Sabır ve tevekkül
- C) Sadakat ve emanet
- D) Hakkaniyet ve liyakat

18. "Yöneticilerinizin en hayırlısı sizi seven ve sizin tarafınızdan da sevilen, size dua eden sizin de kendisine dua ettiğiniz kimsedir. En kötüsü ise halkını aşağılayıp sevmeyen ve halkı tarafından sevilmeyen, halkına lanet eden ve halkı tarafından lanetlenen kimsedir."

Bu hadisten yöneticiler ile ilgili aşağıdakilerden hangisi çıkarılamaz?

- A) Halkın iyiliğini istemelidirler.
- B) Kibir ve gurura kapılmamalıdır.
- C) Halkın isteklerine kulak vermelidirler.
- D) Halkın her isteğini yerine getirmelidirler.

19. Hz. Peygamber atadığı yöneticilerde aşağıdaki özelliklerden hangisinin bulunmasına önem vermemiştir?

- A) Zengin ve varlıklı olmasına
- B) Sorumluluk sahibi olmasına
- C) İstişareye önem vermesine
- D) Liyakatli olmasına

20. Aşağıdakilerden hangisi yönetilenlerin sorumluluklarından biri değildir?

- A) İnsan haklarına saygılı olmak
- B) Kamu mallarına zarar vermemek
- C) Yöneticinin bütün kararlarına itaat etmek
- D) Huzuru bozucu davranışlardan uzak durmak

(608) DEM. VE İNSAN HAK. – 2

1. Din, mezhep, etnik köken, asalet, servet, makam vb. gözetilmeksizin kişilerin yasalar karşısında farklı muamele görmemesi aşağıdaki kavramlardan hangisiyle ifade edilir?

- A) Hak
- B) Eşitlik
- C) Ödev
- D) Özgürlük

2. I. Hümanizm düşüncesi
II. Doğal haklar anlayışı
III. Kuvvetler ayrılığı prensibi

Yukarıdakilerden hangileri insan hakları düşüncesinin gelişmesinde etkili olmuştur?

- A) I ve II
- B) I ve III
- C) II ve III
- D) I, II ve III

3. Aşağıdakilerden hangisi kişinin siyasal gücün kullanılmasına katılmasını sağlayan haklardandır?

- A) Seçme ve seçilme hakkı
- B) Kişi dokunulmazlığı hakkı
- C) Eğitim ve öğrenim hakkı
- D) Dinlenme hakkı

4. Modern devlette, devletin örgütlenmesi aşağıdakilerden hangisiyle gerçekleşir?

- A) Gelenekler
- B) Görenekler
- C) Pozitif hukuk
- D) Töreler

5. • Kanun önünde eşitlik
• Mahkemelerin bağımsızlığı
• İdarenin yargısal denetimi

Verilenler öncelikle aşağıdakilerden hangisinin gereğidir?

- A) Hukuk devletinin
- B) Polis devletinin
- C) Sosyal devletinin
- D) Laik devletin

3. OTURUM

6. “Kuvvetler ayrımı” kavramının açıklaması aşağıdakilerden hangisidir?
- A) Vatandaşlarına hukuki güvenceler sağlayan devlet sistemi
B) İnsan haklarına saygılı olma, kişi hak ve özgürlüklerini koruma
C) Yasama, yürütme, yargı organlarının birbirinden bağımsız olması
D) Kişilerin yasalar karşısında eşit muamele görmesi
7. Aşağıdakilerden hangisi TBMM’nin idare üzerindeki denetim yollarından biri değildir?
- A) Meclis araştırması
B) Özel görüşme
C) Gensoru
D) Soru
8. Kelime anlamı “halk iktidarı” olan sözcük aşağıdakilerden hangisidir?
- A) Demokrasi B) Hümanizm
C) Rönesans D) İmparatorluk
9. Çağdaş toplumlarda halkın doğrudan ülke yönetimine katılması mümkün olmadığından vatandaşların, seçimler yoluyla ve seçilen milletvekilleri aracılığıyla ülke yönetimine belli ölçüde katılmaları sağlanır.
- Yapılan açıklama aşağıdakilerden hangisiyle ilgilidir?
- A) Çoğulculuk
B) Temsili demokrasi
C) Hukukun üstünlüğü
D) Bireysel özgürlük
10. Aşağıdakilerden hangisi, siyasi partilerin işlevlerinden biri değildir?
- A) Ülkeyi yönetecek lider kadrolarını eğitmek
B) İktidarı eleştirmek ve denetlemek
C) Halk ile iktidar arasında aracılık yapmak
D) Beklentileri gerçekleştirilmeyen çevrelerdeki huzursuzluğu arttırmak
11. Osmanlı devletinde 1808 yılında imzalanan, pratikte hiç uygulanmasa da padişahın yetkilerini sınırlayan, padişahı belli bir yönde davranmaya zorlayan ilk belge aşağıdakilerden hangisidir?
- A) Nizam-ı Cedit
B) Sened-i İttifak
C) İslahat Fermanı
D) Birinci Meşrutiyet
12. Türkiye Cumhuriyeti Devleti’nde yasaların Anayasaya uygunluğu için yargısal denetim ilk kez hangi Anayasa ile getirilmiştir?
- A) 1921 Anayasası
B) 1924 Anayasası
C) 1961 Anayasası
D) 1982 Anayasası
13. Demokratik yaşam tarzını benimsemiş olan bireylerden aşağıdaki davranışlardan hangisi beklenmez?
- A) Kendi hakları çiğnendiğinde pasif durumda kalması
B) Kendi gibi düşünmeyenlere saygılı olması
C) İlgili alanlarına uygun sivil toplum örgütleri içinde yer alması
D) Ailenin geleceğiyle ilgili kararlarda aile bireylerinin tamamının görüşünün alınması
14. Aşağıdakilerden hangisi uluslararası antlaşmaların niteliklerindedir?
- A) Daha çok tavsiye niteliğindedir.
B) Taraf devletler için bağlayıcı hükümler içermez.
C) Sözleşmenin gereğini yapmayan toplumlar için yaptırımlar öngörülmemiştir.
D) Taraf olan devletler için denetim mekanizması öngörülmemiştir.
15. Dünya barışının sağlanması ve insan hakları ihlallerinin önlenmesi amacıyla 1945 yılında kurulmuş olan örgüt aşağıdakilerden hangisidir?
- A) Avrupa Güvenlik ve İşbirliği Teşkilatı
B) Avrupa İnsan Hakları Mahkemesi
C) Avrupa Birliği
D) Birleşmiş Milletler
16. Aşağıdakilerden hangisi ülkemizde kurulan “ulusal” sivil toplum kuruluşlarından biridir?
- A) Uluslararası Kızılhaç Komitesi
B) Uluslararası Af Örgütü
C) Türk Demokrasi Vakfı
D) Uluslararası PEN Kulübü
17. Aşağıdakilerden hangisi, insan haklarının korunması konusunda demokrasilerde karşılaşılan sorunlardandır?
- A) Bölgeler arası kalkınmışlık farklarının giderilmesi
B) Bilim alanındaki gelişmelerin kontrollü kullanımı
C) Hızlı toplumsal değişimin olumsuz etkilerinin önlenmesi
D) Uluslararası terörün artması
18. “Bir ülkede belli bir dönemde geçerli olan kuralların zorla ve köklü bir değişikliğe tabi tutularak yerine yenilerinin getirilmesidir.”
- Yukarıda tanımlanan kavram aşağıdakilerden hangisidir?
- A) İnkılap (devrim)
B) Çağdaşlaşma
C) Aydınlanma
D) Reform
19. Ülkede yaşayan halkın eşit olması, hiçbir kişi ya da gruba ayrıcalık tanınmaması öncelikle hangi Atatürk ilkesiyle ilgilidir?
- A) Devletçilik B) Laiklik
C) Milliyetçilik D) Halkçılık
20. Çağın ihtiyaçlarına cevap verebilen sürekli gelişmeye ve değişmeye elverişli bir toplum yapısının oluşturulabilmesini öngören Atatürk ilkesi aşağıdakilerden hangisidir?
- A) Laiklik
B) İnkılapçılık
C) Cumhuriyetçilik
D) Milliyetçilik

3. OTURUM

(613) SEÇ. DİL VE ANLA. – 3

1. Bir iletişimde duygu, düşünce ve isteğin aktarılmasında sözü söyleyen kişi veya topluluğa - - - - denir.

Bu cümlede boş bırakılan yere aşağıdakilerden hangisi getirilmelidir?

- A) bağlam B) gönderici
C) alıcı D) kanal

2. • Tarihteki ilk antlaşma Kadeş Antlaşması'dır.
• Yaşasın, kar yağmaya başladı!
• Şu paketleri bir üst kata taşı.

Bu cümlelerde dilin aşağıdaki işlevlerinden hangisi örneklenmemiştir?

- A) Kanalı kontrol işlevi
B) Alıcıyı harekete geçirme işlevi
C) Heyecana bağlı işlev
D) Göndergesel işlev

3. **Aşağıdakilerden hangisi sunum sırasında yapılması gerekenlerden biridir?**

- A) Sunum yapılacak yer önceden görülmelidir.
B) Güncel bir konu seçilmelidir.
C) Bilgisayar, CD, projeksiyon cihazı, mikrofon gibi araçlardan faydalanılmalıdır.
D) Kullanılacak malzemeler kontrol edilmelidir.

4. Mevsimler, yerin Güneş'e uzaklığındaki değişikliklere değil, yö-rünge düzlemine inilen dikme ile dönem eksenini arasındaki açıya bağlıdır; bu açı 23,27 derecedir. Kuzey yarı küre Güneş'e yöneldiğinde kuzey yazları ortaya çıkar; kuzey kışlarındaysa güney yarı küre Güneş'e döner.

Bu parçada dil hangi işleviyle kullanılmıştır?

- A) Göndergesel işlev
B) Kanalı kontrol işlevi
C) Alıcıyı harekete geçirme işlevi
D) Heyecana bağlı işlev

5. Toplumunu ilgilendiren bir konunun dinleyiciler önünde, sohbet havası içinde uzmanları tarafından tartışıldığı konuşmalara - - - - denir.

Bu cümlede boş bırakılan yere aşağıdakilerden hangisi getirilmelidir?

- A) forum B) konferans
C) panel D) münazara

6. Panelin sonunda, dinleyiciler panel üyelerine soru sorabilir; tartışma seyircilere de geçerse o zaman tartışma - - - - dönüşür.

Bu cümlede boş bırakılan yere aşağıdakilerden hangisi getirilmelidir?

- A) açık oturuma
B) münazaraya
C) sunuma
D) foruma

7. Nasıl yaşayacağım ey deniz, senden uzak?

Yanıp sönüyor gibi gözlerimde fenerin.
Uyuyor mu limanda her gece sallanarak
Altından çivilerle çakılmış gemilerin?

Bu dörtlüğün teması aşağıdakilerden hangisidir?

- A) Pişmanlık B) Özlem
C) Umutsuzluk D) Yalnızlık

8. **Aşağıdaki temalardan hangisi en çok sınırlandırılmıştır?**

- A) Cumhuriyet Dönemi'ndeki tarihî romanlar
B) Edebiyatımızdaki tarihî romanlar
C) Kemal Tahir'in tarihî romanları
D) Dünya edebiyatındaki tarihî romanlar

9. Ovada, Grişal'e gelen yollardan bir toz dumandır kalkıyordu. Nice bin atlı, imdada koşuyor sanılırdı. Düşman, bu hâli görünce şaşırırdı. İki ateş arasında kaldığını anladı. Hâlbuki toz duman içinde yaklaşılanlar ancak on beş gaziydi. Bozgun başladı.

Bu parçada ağır basan anlatım biçimi aşağıdakilerden hangisidir?

- A) Açıklama B) Öyküleme
C) Betimleme D) Tartışma

10. Yaşlı adam, bitkin adımlarla bacaklarını hiç bükmeden değnek gibi öne atıyordu; iki büküm, elindeki bastonunu yere hafifçe vurarak pastaneye doğru yavaş yavaş yürüyordu. Ömrümde böylesine garip biçimli bir adam görmemiştim. Daha önceleri de Miller'in pastanesinde onunla her karşılaşmamda tuhaf bir duyguya kapılırdım.

Bu parçanın anlatımında aşağıdakilerin hangisinden yararlanılmıştır?

- A) Açıklama-Tartışma
B) Tartışma-Öyküleme
C) Betimleme-Açıklama
D) Öyküleme-Betimleme

11. **Aşağıdaki cümlelerin hangisinde öznel bir anlatım vardır?**

- A) Bir yazarın neyi söylediğinden çok nasıl söylediği önemlidir.
B) Sanatçının bu eseri edebiyatımızdaki ilk realist romanmış.
C) Eş sesli kelimeler dize sonlarında cinaslı kafiye oluşturur.
D) Yeşil renkli bir araç az önce evimizin yanına park etti.

12. **Aşağıdakilerden hangisi doğru olan anlatım cümlesidir?**

- A) Okurun edebî romanlara eskisi kadar ilgi göstermediğini belirtti.
B) Bu mevsimde her günün kar yağışıyla geçtiğini söyledi.
C) Sanat adamının çevresindeki sorunlara duyarsız kalmayacağını dile getirdi.
D) Başarımanın tek sırrı düzenli ders çalışmamdır, demişti.

3. OTURUM

13. Soğuk bir rüzgâr, uğultuyla sokağa doluyor, bir kasırgaya dönüşüp dört bir yanı zorluyor. Pencereler, kapılar, sokak lambaları savruluyor. Bir restoran levhası onu demire bağlayan halkalardan kurtulmak için deli gibi çırpınıyor.

Bu parçanın anlatımı için aşağıdakilerden hangisi söylenemez?

- A) Görme, dokunma ve işitme duyusuyla algılanacak ayrıntılar bulunmaktadır.
- B) Üçüncü kişi anlatımı kullanılmıştır.
- C) Dolaylı anlatıma örnek cümleler vardır.
- D) Betimleyici ifadeler yer verilmiştir.

14. Sapanca Gölü'nün masmavi sularına, muhteşem bir bitki örtüsünün yeşilliği düşüyor. Doğanın sessizliği içinde bir renk çılgılığı Sapanca. Yeşilin her tonu, akıllara durgunluk veren bir bereket ve güzellikle boy atıp durmuş. Bir de tatlı, ılık bir esintinin getirdiği o bayıltıcı kokuyla âdeta kendinizden geçersiniz burada.

Bu parçanın anlatımı için aşağıdakilerden hangisi söylenemez?

- A) Kişileştirmeden yararlanılmıştır.
- B) Somut anlatımlı cümleler vardır.
- C) Birden fazla duyuya seslenilmiştir.
- D) Özne ifadeler kullanılmıştır.

15. "Gereksiz söze ne hacet, insan ne anlatmak istiyorsa bunu en kısa şekilde anlatmalı ki sözüne yalan karışmasın." derdi ve bir şey anlatırken az konuşur, konuşurken kısa cümleler kurar, işe yaramayan tek sözcük bile kullanmazdı.

Bu parçada sözü edilen kişinin hangi anlatım özelliği vurgulanmaktadır?

- A) Açıklık
- B) Özlülük
- C) Akıcılık
- D) Özgünlük

16. Aşağıdaki cümlelerde altı çizili sözlerden hangisi alışılmamış bağdaştırmaya örnektir?

- A) Tabağın üzerindeki çürük elmayı iştahla yedi.
- B) Tarladaki kızarmış domateslere imrenerek baktı.
- C) Bir acı söz insanın yüreğinde derin yaralar açar.
- D) Konuşurken uzun cümle kurmaktan kaçınılıyoruz.

17. I. Olandan çok olması istenen anlatılır.
II. Dil daha çok göndergesel işlevde kullanılır.
III. Konu; olağanüstü ve fantastik özelliklere sahip, hayal ürünüdür.

Numaralanmış özelliklerle aşağıdaki anlatım türleri eşleştirildiğinde hangisi dışta kalır?

- A) Gelecekte söz eden anlatım
- B) Emredici anlatım
- C) Öğretici anlatım
- D) Düşsel (fantastik) anlatım

18. Aşağıdakilerden hangisi bir paragrafın giriş cümlesi olamaz?

- A) Kitap hiçbir zaman kapris yapmayan bir dosttur.
- B) Roman yazarken diyaloglara yer vermek çoğunlukla kaçınılmazdır.
- C) Yaşanılan zaman diliminde hiçbir şey yinelenmez.
- D) Sanatçı yeni düşüncelerin ardından da gitmeli ki adını yaşatabilsin.

19. Aşağıdaki cümlelerin hangisinde bir anlatım bozukluğu vardır?

- A) Bulaşıkları ben, çamaşırları kardeşim yıkadı.
- B) Kitabı dikkatle inceledim ancak beğenmedim.
- C) Yemekler çok güzeldi ama servis iyi değildi.
- D) Yeni çıkan kitapları alıyor, hemen okuyordu.

20. "Buraya geleli aşağı yukarı tam on yıl oldu." cümlesindeki **anlatım bozukluğunun nedeni aşağıdakilerden hangisidir?**

- A) Gereksiz sözcük kullanımı
- B) Tümleç eksikliği
- C) Anlamca çelişen sözcük kullanımı
- D) Sözcüğün yanlış yerde kullanılması

(615) SEÇ. DİL VE ANLA. – 5

1. Aşağıdakilerden hangisi **anlatmaya bağlı edebî metinlerden değildir?**

- A) Destan
- B) Masal
- C) Roman
- D) Komedi

2. Aşağıdakilerden hangisi **öğretici metinlerin özelliklerinden biridir?**

- A) Anlatış biçimi ve estetik önemi vardır.
- B) Açık ve anlaşılır bir dil kullanılır.
- C) Gerçeklik ön planda değildir.
- D) Kelimeler gerçek anlamlarıyla değil, yan ve mecaz anlamlarıyla kullanılır.

3. Aşağıdakilerden hangisi **kişisel hayatı konu alan metinlerden değildir?**

- A) Mektup
- B) Anı
- C) Sohbet
- D) Gezi yazısı

4. **Ömer Seyfettin'in "Forsa" adlı hikâyesi aşağıdaki metin türlerinin hangisi içinde yer alır?**

- A) Gazete çevresinde gelişen metin
- B) Kişisel hayatı konu alan metin
- C) Anlatmaya bağlı edebî metin
- D) Göstermeye bağlı edebî metin

3. OTURUM

5. Bir gün baksam ki gelmişsin
Hasretin içimde sonsuzluk kadar
Şaşırılmış kalmışım birdenbire
çaresiz
Dökülmüş yüreğime gökyüzün-
den yıldızlar

**Bu dörtlükle ilgili aşağıdakiler-
den hangisi söylenemez?**

- A) Sanatsal metindir.
B) Dil göndergesel işlevde kulla-
nılmıştır.
C) Duygular ifade edilmiştir.
D) İmgelere yer verilmiştir.

6. Aşağıdakilerden hangisi bir sa-
nat metninden alınmıştır?

- A) Edebî eserin ana konusu insan-
dır. Hayatı ve çevresi ile insan.
Buradan hareketle denebilir ki
edebiyat, insan gerçeğinin es-
tetik ifadesi peşindedir.
B) Günümüz dünyasında çevre
kirliliği, tüm gezegeni kaplayan
boyutlara ulaşmış durumda.
Dünyanın birçok bölgesinde in-
sanlar çevre felaketine karşı ko-
rumasız bir yaşam sürmektedir.
C) Sanatçıya dönük eleştiride
biyografik diyebileceğimiz bir
eleştiri yöntemi büyük yer tu-
tar. Fakat biyografik eleştirinin
de çeşitleri vardır. Bunlardan
biri, yazarın ya da şairin haya-
tını yazmaktır.
D) Kırkların yorgun sessizliğini bo-
zan hüzünlü çingirak sesleri,
uzak yakın ineklerin böğürtü-
sü, köpeklerin havlayışı hafif
bir uğultunun içinde kaybolu-
yordu. Küçük bir sürü, köyün
girişinde bekliyordu.

7. Birbirini tanıyan kişilerin (akra-
ba, eş, dost, kardeş vb.) duygu
ve düşüncelerini paylaşmak için
birbirlerine yazdıkları mektuplara
---- denir.

**Bu cümlede boş bırakılan yere
aşağıdakilerden hangisi getiril-
melidir?**

- A) özel mektup
B) edebî mektup
C) iş mektubu
D) resmî mektup

8. Paris, 27 Temmuz 1959
Kutsiciğim,
Bugün İstanbul'dan çıkmalı tam
bir ay oldu. Böyle on bir ay daha
bitti mi elveda hürriyete, elveda
Paris'e. Bana "Bu bir aydır ne
yaptın?" diye sorma. Sadece
Paris'teydim. Ara sıra okula git-
tim, geldim; okudum, yazı yazma-
ya çalıştım.

**Bu metinle ilgili aşağıdakiler-
den hangisi doğrudur?**

- A) Sanat metni - hikâye
B) Sanat metni - trajedi
C) Öğretici metin - günlük
D) Öğretici metin - mektup

9. I. Okuyucu gözetilerek yazılır.
II. Yazıldığı günün tarihi atılır.
III. Dil genellikle heyecana bağlı
işlevde kullanılır.
IV. Anlatılanlar içtenlikle ifade
edilir.

**Yukarıdakilerden hangisi gün-
lüğün özelliklerinden değildir?**

- A) I. B) II.
C) III. D) IV.

10. Benim çocukluğumun ramazan-
ları kara kışa rastlamıştı. Onun
içindir ki kulağımda kalan ilk
davul sesi oldukça kof ve hayli
neşesizdi. Zira davulun derisi ru-
tubetten pörsümüştü. Ayrıca ses,
kapalı camlar ve kafesler ardın-
dan içeriye boğuklaşarak girerdi.
Fakat annemin kış ramazanını
yazinkilere tercih ettiğini çok iyi
hatırlıyorum.

**Bu parça aşağıdaki metin türle-
rinin hangisinden alınmıştır?**

- A) Günlük B) Anı
C) Biyografi D) Deneme

11. Aşağıdaki cümlelerin hangisin-
de bilgi yanlışlığı vardır?

- A) Biyografi türündeki yazılara es-
kiden tercümeihâl adı verilirdi.
B) Dünyada biyografinin ilk büyük
yazarı eski Yunan edebiyatın-
da Plutarkhos'tur.
C) Otobiyografiler, yazarın kendisi
tarafından yazıldığı için birinci
tekil şahıs kullanılır.
D) Şairlerin hayatı ve sanatı hak-
kında bilgi veren şuara tezkire-
leri de otobiyografi örneğidir.

12. Edebiyatta, sanatta, bilimde, po-
litikada ya da başka bir alanda
tanınmış kişilerin yaşamlarını
anlatan yazı türüdür. Yaşamı
yazılacak kişinin günlüklerinden,
anılarından, mektuplarından ve
etrafındaki yazarların izlenimlerin-
den yararlanır. Bu yazı türünde
tarafsız davranılır, kişisel duygu
ve düşüncelere yer verilmez.

**Bu parçada tanıtılan yazı türü
aşağıdakilerden hangisidir?**

- A) Sohbet B) Biyografi
C) Otobiyografi D) Gezi yazısı

13. Eskiden gezi yazılarına ---- ,
geziye çıkmayı uğraş edinmiş ki-
şilere de ---- denirdi.

**Bu cümlede boş bırakılan yer-
lere sırasıyla aşağıda verilen-
lerden hangisi getirilmelidir?**

- A) tezkire - gezgin
B) seyahatname - şuara
C) seyahatname - seyyah
D) tezkire - âlim

14. Aşağıdakilerden hangisi soh-
bet türünde yazılmış bir eser
değildir?

- A) Eşref Saat (Şevket Rado)
B) Edebiyat Söyleşileri (Suut
Kemal Yetkin)
C) Karalama Defteri (Nurullah
Ataç)
D) Dertli Dolap (Nezihe Araz)

15. Aşağıdakilerden hangisi haber
yazılarının özelliklerinden de-
ğildir?

- A) Ne, kim, nasıl, nerede, ne za-
man, neden sorularına cevap
verecek şekilde yazılır.
B) Dil genellikle şiirsel işlevde
kullanılır.
C) Toplumun büyük bir bölümünü
ilgilendiren konulara yer verilir.
D) Tarafsız kalınarak, yorumlar-
dan kaçınılarak hazırlanır.

3. OTURUM

16. Fıkra türü Türk edebiyatına Tanzimat Dönemi'nde Batı'dan geçmiştir. Türk edebiyatında özellikle ---- fıkralarıyla tanınmıştır.

Bu parçada boş bırakılan yere aşağıdakilerden hangisi getirilmelidir?

- A) Ahmet Rasim
B) Reşat Nuri Güntekin
C) Mehmet Akif Ersoy
D) Tevfik Fikret

17. Aşağıdakilerin hangisinde bilgi yanlışdır?

- A) Kişinin kendi yaşamını anlattığı yazılara otobiyografi denir.
B) Fıkralar gününbirlik yazılardır, bu sebeple fıkraların kalıcı özellikleri yoktur.
C) Makalenin amacı herhangi bir konuda yazarın düşüncesini serbestçe okura aktarmaktır.
D) Deneme yazarı ele aldığı düşünceyi kanıtlamak zorunda değildir.

18. Denemeler konularına göre ve yazılış amaçlarına göre gruplara ayrılır.

Aşağıdakilerden hangisi bu gruplardan değildir?

- A) Felsefi denemeler
B) Edebî denemeler
C) Doğal denemeler
D) Eleştirel denemeler

19. Aşağıdakilerden hangisi bir makaleden alınmıştır?

- A) Asırlardır kötümserler, köşelerinden dünyanın kötüye gittiğinin doksan dokuz nedenini sayarlarken iyimserler epey yol almış, pek çok iş başarmışlardır.
B) İnsan çocukluk çağından kurtuldu mu tam anlamıyla yaşama-ya başlar ve yaşadığı günlerle geçmiş günleri kıyaslamaktan kendini alamaz. Bu kıyaslama yaşadığı günlerin zararına olur.
C) Ona seslenen adam, şoföre bulunduğu yeri işaret ediyordu. Yol kenarından bir araba daha ona doğru geliyordu. Fakat araba birden durdu.
D) Türkçe bugün Türk dil ailesinin en fazla konuşulan kollarından biridir. Yaklaşık seksen milyon kişinin konuştuğu Türkiye Türkçesi yalnızca Türkiye'de değil, diğer bölgelerde de konuşulan ve yazılan dillerdendir.

20. Ahmet Hamdi Tanpınar'ın başarısı, kendini keşfettikten sonra hayatı boyunca mizacına bağlı kalması ve aynı doğrultuda kültürü ve yaşayışı ile geliştirmesidir. İşte bu üç şeyin mizaç, kültür ve çalışmanın birleşmesidir ki onu neslinin en kuvvetli ve en mükemmel şairi yapmıştır.

Bu metnin türü aşağıdakilerden hangisidir?

- A) Eleştiri
B) Günlük
C) Otobiyografi
D) Anı

(616) SEÇ. DİL VE ANLA. – 6

1. Aşağıdaki anlatım türlerinden hangisinin röportajda kullanımı daha azdır?

- A) Söyleşmeye bağlı anlatım
B) Kanıtlayıcı anlatım
C) Düşsel anlatım
D) Öyküleyici anlatım

2. Söylevle ilgili aşağıdakilerden hangisi yanlıştır?

- A) Söyleve dinleyicilerin ilgisini çekecek cümlelerle başlanmalıdır.
B) Söylev sırasında dinleyicilere söz hakkı verilmelidir.
C) Konuşma esnasında vurgu ve tonlamaya dikkat edilmelidir.
D) Konuşmalar jest ve mimiklerle desteklenmelidir.

3. - Türkiye'de tarih okuma eğilimi ya da merakı ne düzeyde?
- Yeni nesiller tarih konusunda açık fikirli artık. İspanyolca öğrenen geniş bir kitle var, bunlar tarih inceliyorlar. Arapça ve Farsça üzerine çalışanlar artıyor. Tarih okuma kültürü yavaş yavaş geliyor.

Bu metnin türü aşağıdakilerden hangisidir?

- A) Deneme
B) Makale
C) Mülakat
D) Söylev

4. Aşağıdakilerin hangisinde bilgi yanlışdır?

- A) Genellikle parlamentolarda, diplomatik toplantılarda, mitinglerde yapılan konuşmalara akademik söylev denir.
B) Mahkemelerde savcı ve avukatların yargılama sırasında savunmak ya da suçlamak amacıyla söyledikleri sözlere hukuki söylev denir.
C) Orduların moral gücünü yükseltmek ve güven duygusunu artırmak amacıyla yapılan konuşmalara askerî söylev denir.
D) Ekonomik konularda iş adamlarının ve ekonomistlerin yaptığı konuşmalara iktisadi söylev denir.

3. OTURUM

5. Sözlü anlatım türlerini şöyle sıralayabiliriz: ---, ---, ---.

Bu cümlede boş bırakılan yerlere aşağıdakilerden hangisi getirilemez?

- A) mülakat B) söyleşi
C) söylev D) röportaj

6. Yusuf, Türk edebiyatı öğretmenin verdiği proje ödevi için iki saz şairiyle görüşme yapacak ve ödevini bu görüşmeye göre hazırlayacaktır.

Buna göre Yusuf ödevini aşağıdaki türlerin hangisinden yararlanarak oluşturur?

- A) Makale B) Mülakat
C) Söylev D) Gezi yazısı

7. - Ele alınan konu açık, kesin ve inandırıcı biçimde ortaya konur.
- Özellikle millî ve manevî konularda hazırlanır.
- Jest ve mimiklerden yararlanır.

Verilen özellikler aşağıdaki türlerden hangisine aittir?

- A) Mülakat B) Röportaj
C) Söylev D) Makale

8. Palas Gölü ne yazık ki Türkiye'deki sulak alanların karşılaştığı temel problemlerle tehdit altında. Bölge halkı 2002 yılına kadar gölün kurutulmasını istiyordu. Ekonomik bakımdan gölün kendilerine yarar sağlamadığını söyleyen bazı kişiler gölün kurutulmasıyla yeni tarım arazilerinin oluşacağını savunuyordu. Bu istek doğrultusunda Devlet Su İşleri, 1989 yılında Palas Gölü'nün kurutulmasına yönelik bir ön proje hazırladı.

Bu metnin türü aşağıdakilerden hangisidir?

- A) Mülakat B) Söylev
C) Anı D) Röportaj

9. Ünlü kişilerin çeşitli yönlerini tanıtmak ve toplumu ilgilendiren önemli bir konuyu aydınlatmak için ünlü kişiler ve uzmanlarla yapılan görüşmeleri sorulu-cevaplı olarak aktaran yazılara --- denir.

Bu cümlede boş bırakılan yere aşağıdakilerden hangisi getirilmelidir?

- A) söylev B) röportaj
C) mülakat D) biyografi

10. **Aşağıdakilerden hangisi ülkemizde önemli söylevcilerden biri değildir?**

- A) Mustafa Kemal Atatürk
B) Ömer Naci
C) Hamdullah Suphi Tanrıöver
D) Yaşar Kemal

11. --- sözcüğünün kelime anlamı "buluşmak, görüşmek"tir.

Bu cümlede boş bırakılan yere aşağıdakilerden hangisi getirilmelidir?

- A) Röportaj B) Mülakat
C) Sohbet D) Makale

12. **Röportajla ilgili aşağıdakilerden hangisi söylenemez?**

- A) Ses kayıtları, belge ve fotoğraflardan yararlanır.
B) Yazar, konuyla ilgili düşüncelerine yer verebilir.
C) Derinlemesine inceleme ve araştırma gerektiren bir türdür.
D) Konu, sadece soru-cevap şeklinde ortaya konur.

13. Topluluk karşısında konuşma sanatına ---, bu konuşmayı yapan kişiye de --- denir.

Bu cümlede boş bırakılan yerlere sırasıyla aşağıdakilerden hangisi getirilmelidir?

- A) söylev – muhabir
B) nutuk – eleştirmen
C) hitabet – hatip
D) mülakat – ozan

14. ---; araştırma, inceleme ve so-ruşturmaya dayanan bazı gerçeklerin ortaya çıkmasına yardımcı olan bir türdür. --- ise soru ve cevaplardan oluşur, yazar kendi düşüncelerini ortaya koymaz.

Bu parçada boş bırakılan yerlere aşağıdakilerin hangisinde verilenler sırasıyla getirilmelidir?

- A) Röportaj – Mülakat
B) Makale – Söylev
C) Söylev – Röportaj
D) Mülakat – Makale

15. I. Dilin özelliklerini iyi bilmelidir.
II. Toplulukları inandırma yeteneği olmalıdır.
III. Dinleyicilerin kültür düzeylerini ve zevkini dikkate almalıdır.
IV. Abartılı söyleyiş ve argoya yer vermemelidir.

Yukarıda numaralanmış cümlelerden hangisi söylev veren kişinin özelliklerinden değildir?

- A) I. B) II.
C) III. D) IV.

16. **Aşağıdakilerden hangisi mülakatın özelliklerinden değildir?**

- A) Söyleşmeye bağlı anlatımdan yararlanır.
B) Metinleri öğretici ve ufuk açıcıdır.
C) Ünlü kişilerin çeşitli yönlerini tanıtmak için yazılır.
D) Konu tüm ayrıntılarıyla ele alınmalıdır.

17. Söylev türünün ilk örnekleri --- ve --- Dönemleri'nde görülmüştür.

Bu cümlede boş bırakılan yerlere aşağıdakilerden hangisi getirilmelidir?

- A) Eski Yunan – Roma
B) Sümer – Pers
C) Asur – Roma
D) Eski Yunan – Sümer

3. OTURUM

18. Arkadaşlar! Sizler doğrudan doğruya milletimizi oluşturan halk sınıflarının içinden ve onlar tarafından seçilmiş olarak geliyorsunuz. Bunun için memleketimizin, milletimizin hâlini, ihtiyacını, emellerini, üzüntülerini yakından biliyorsunuz. Sizin söyleyeceğiniz sözler, alınmasını isteyeceğiniz önlemler doğrudan halkın dilinden söylenmiş gibi kabul olunur. Bu, en büyük doğrudur.

Bu metnin türü aşağıdakilerden hangisidir?

- A) Söylev B) Mülakat
C) Röportaj D) Deneme

19. “Anadolu kilimleri”nin anlatıldığı bir röportajın türü aşağıdakilerden hangisidir?

- A) Bir inanışı konu alan
B) Bir eşyayı konu alan
C) Bir insanı konu alan
D) Bir yeri konu alan

20. Sesi, topluluğun sesine dönüştürmek, insanları coşturmak, insanda tartışma atmosferi oluşturmak bu türün en önemli özellikleridir.

Bu parçada sözü edilen tür aşağıdakilerden hangisidir?

- A) Mülakat B) Röportaj
C) Söylev D) Makale

(623) SEÇ. TÜRK ED. – 3

1. Türkiye’de ilk defa edebiyat tarihi incelemelerinde bilimsel yöntemleri ortaya koyan bilim insanı aşağıdakilerden hangisidir?

- A) Fuat Köprülü
B) Namık Kemal
C) Ziya Gökalp
D) Ahmet Hamdi Tanpınar

2. Edebiyat tarihi ile ilgili olarak aşağıda verilenlerden hangisi yanlıştır?

- A) Medeniyet tarihinin bir koludur.
B) Diğer bilim dallarından faydalanır.
C) Sadece şaheserleri inceler.
D) Bir milletin fikrî ve hissî gelişmelerini inceler.

3. Aşağıdakilerden hangisi Türk edebiyatının ana dönemlere ayrılmasında kullanılan kıstaslardan biri değildir?

- A) Kültürel değişimler
B) Edebî topluluklar
C) Dil coğrafyası
D) Din anlayışı

4. Aşağıdakilerden hangisi Batı Etkisinde Gelişen Türk Edebiyatı’nın bölümlerinden biri değildir?

- A) Tanzimat Dönemi
B) Servetifünun Dönemi
C) Millî Edebiyat
D) Klasik Edebiyat

5. “Gün, Ay, Yıldız! Tan yönüne sizler varın! Gök, dağ, deniz! Gece batı yönüne sizler varın!” dedi. Ondan sonra üç tanesi tan yönüne, üç tanesi batı yönüne vardı.

Bu parça aşağıdaki hangi destandan alınmıştır?

- A) Ergenekon
B) Göktürk
C) Oğuz Kağan
D) Şu

6. Halk edebiyatında koşma adı verilen aşk, tabiat konularını işleyen şiirlerin Sözlü Dönem’deki karşılığı aşağıdakilerden hangisidir?

- A) Sagu B) Sav
C) Destan D) Koşuk

7. Aşağıdakilerin hangisinde doğal destanlar bir arada verilmiştir?

- A) Oğuz Kağan, Ergenekon, Çılgın Orlando
B) Odysseia, Kalevela, Türeyiş
C) Oğuz Kağan, İlahi Komediya, Odysseia
D) Göç, Manas, Kurtarılmış Kudüs

8. Türklerin, demircilik sayesinde kurtuluşlarını anlatan Göktürk destanı aşağıdakilerden hangisidir?

- A) Şehname B) Manas
C) Battal Gazi D) Ergenekon

9. Aşağıdakilerden hangisi Türk edebiyatının yaygın olarak kabul gören tarihî dönemlerinden biri değildir?

- A) Osmanlı Dönemi Türk Edebiyatı
B) Destan Dönemi Türk Edebiyatı
C) İslami Dönem Türk Edebiyatı
D) Batı Etkisindeki Türk Edebiyatı

10. Aşağıdakilerden hangisi İslamiyet Öncesi Türk Edebiyatı Sözlü Dönemi’ne ait bir özellik değildir?

- A) Şiirlerde hece ölçüsü kullanılmıştır.
B) İlk mesnevi ve koşma örnekleri bu dönemde verilmiştir.
C) Cesaret, aşk, doğa sevgisi işlenen başlıca konulardır.
D) Şiirler “şaman, oyun, baksı, ozan” adı verilen sanatçılar tarafından söylenmiştir.

11. “Sagu” için aşağıdakilerden hangisi söylenemez?

- A) Söyleyeni belli değildir.
B) Sevilen kişilerin ölümüne duyulan üzüntüyü anlatır.
C) Zengin uyak kullanılır.
D) Yuğ adı verilen törenlerde söylenir.

12. Aşağıdakilerden hangisi Orhun Yazıtları’nın özelliklerinden biri değildir?

- A) Türk adının geçtiği ilk metindir.
B) Yazıtlar, Uygur alfabesi ile yazılmıştır.
C) Türk edebiyatının yazılı ilk metinleridir.
D) II. Göktürk Devleti zamanında yazılmıştır.

13. Destanlar ile ilgili aşağıda verilen bilgilerden hangisi yanlıştır?

- A) Olağanüstü olaylara yer verilir.
B) Kahramanlar, üstün nitelikleri olan kişilerdir.
C) Toplum yaşamından izler bulunur.
D) Süslü ve ağır bir anlatıma yer verilir.

3. OTURUM

14. Aşağıdakilerden hangisi İslamiyet Öncesi Türk Edebiyatı'nın Yazılı Dönem özelliklerinden biri değildir?

- A) Göktürk alfabesi kullanılmıştır.
- B) Bilge Kağan adına dikilen yazıt yazılı ürünlerden biridir.
- C) Metinler siyasi, dinî içeriklidir.
- D) İslamiyet Öncesi Dönem'den günümüze yazılı ürün kalmamıştır.

15. Aşağıdakilerden hangisi Orhun Yazıtları üzerinde çalışmamıştır?

- A) Hüseyin Namık Orkun
- B) Talat Tekin
- C) Ahmet Haşim
- D) Muharrem Ergin

16. Aşağıdakilerden hangisi Uygur destanı değildir?

- A) Göç
- B) Bozkurt
- C) Türeyiş
- D) Mani Dininin Kabulü

17. "Toplum hayatında iz bırakan tarihî veya sosyal olaylar ve bu olaylar içinde üstün niteliklerle yüceltilmiş efsanevi kahramanlar rol oynar." cümlesi aşağıdaki destan sayfalarının hangisiyle ilgilidir?

- A) Yayılma
- B) Doğuş
- C) Derleme
- D) Yazıya Geçme

18. Aşağıdakilerin hangisi "Batı Etkisinde Gelişen Türk Edebiyatı" içinde yer almaz?

- A) Divan Edebiyatı
- B) Fecriati Edebiyatı
- C) Servetifünun Edebiyatı
- D) Cumhuriyet Dönemi Türk Edebiyatı

19. Aşağıdakilerden hangisi "sagu"nun özelliğidir?

- A) Kopuz eşliğinde söylenirdi.
- B) Ulusların kahramanlıklarını ele alan manzum eserdir.
- C) Yazılı edebiyat ürünüdür.
- D) İslami Dönem Türk Edebiyatı içinde değerlendirilir.

20. Koşuk hakkında verilen aşağıdaki bilgilerden hangisi yanlıştır?

- A) Dörtlülüklerden oluşur.
- B) Hece ölçüsü kullanılır.
- C) Sözlü ürünlerin en yaygınlarından dır.
- D) Batı kültürünün yapı taşlarından dır.

(626) SEÇ. TÜRK ED. – 6

1. "Türkleşmek - İslamlaşmak - Muasırlaşmak" adlı eser, aşağıdaki yazarların hangisine aittir?

- A) Ziya Gökalp
- B) Tevfik Fikret
- C) Faruk Nafiz Çamlıbel
- D) Yakup Kadri Karaosmanoğlu

2. 20. yüzyıl yazarlarımızdandır. Yazı hayatına, Fecriati topluluğunda romantik, realist hikâyeler ve mensur şiir yazarak başladı. Daha sonra deneme, makale, roman, anı türlerinde eserler verdi. Özellikle Tanzimat'tan bu yana geçirdiğimiz siyasal ve sosyal olayları, kuşaklar arasındaki çatışmayı, sosyal değişimleri ve anlayış farklılıklarındaki bunalımları işledi. "Bir Serencam, Yaban, Ankara, Hüküm Gecesi" eserlerinden bazılarıdır.

Bu parçada tanıtılan yazar aşağıdakilerden hangisidir?

- A) Halide Edip Adıvar
- B) Reşat Nuri Güntekin
- C) Faruk Nafiz Çamlıbel
- D) Yakup Kadri Karaosmanoğlu

3. Fecriati'nin "Kuruluş Bildirisi"nin Türk edebiyatındaki önemi aşağıdakilerden hangisidir?

- A) Türk edebiyatındaki ilk bildiridir.
- B) Aydın kimselere seslendiği için ağır bir dil kullanılmıştır.
- C) Parça güzelliği yerine bütün güzelliği ön plana çıkıştır.
- D) Konuşma dilinde hiç bulunmayan sözcükler tercih edilmiştir.

4. Aşağıdakilerden hangisi servetifünun edebiyatının genel özelliklerinden biri değildir?

- A) Göz için kafiye anlayışı benimsenmiştir.
- B) Fransız edebiyatından sone ve terzarıma gibi nazım biçimleri alınmıştır.
- C) Fayda yerine estetik zevki ön plana çıkarmışlardır.
- D) Şiirde sembolizm ve parnasizmin etkisinde kalınmıştır.

5. Tevfik Fikret'in sade bir dille çocuklar için yazdığı şiir kitabı aşağıdakilerden hangisidir?

- A) Rubab-ı Şikeste
- B) Rubabın Cevabı
- C) Haluk'un Defteri
- D) Şermin

6. Aşağıdakilerden hangisi Millî Edebiyat Döneminin genel özelliklerinden biri değildir?

- A) Konuşma dilinin şiire yerleşmesi gerektiği vurgulanır.
- B) Hikâye ve romanlarda olayların geçtiği yer sadece İstanbul'dur.
- C) Hece ölçüsü kullanılmıştır.
- D) Dilde sadelik esastır.

7. Edebiyatımızın ünlü öykücülerindedir. On yıl kadar süren kısa yazı hayatında yüz yirmiden fazla öykü, iki roman ve makaleler yazdı. Öykülerinin konularını günlük yaşamdaki olaylardan, çocukluk anılarından, tarihten ve folklorlardan aldı. Ulusal edebiyatın, ulusal bir dilden doğacağını savunarak yazılarında yalın bir dil kullandı. "Bomba, Yüksek Ökçeler, Yalnız Efe" eserlerinden bazılarıdır.

Parçada sözü edilen yazar aşağıdakilerden hangisidir?

- A) Ömer Seyfettin
- B) Sait Faik Abasıyanık
- C) Memduh Şevket Esendal
- D) Hüseyin Rahmi Gürpınar

3. OTURUM

8. Aşağıdakilerden hangisi servetifünun edebiyatı şiirinin özelliklerinden biridir?

- A) Toplumsal temalar işlenir.
- B) Dilde sadeleşme çabaları görülür.
- C) Parça güzelliğine önem verilir.
- D) Aruz ölçüsü kullanılmıştır.

9. Aşağıdakilerden hangisi Servetifünun Dönemi sanatçılarından biri değildir?

- A) Tevfik Fikret
- B) Muallim Naci
- C) Süleyman Nazif
- D) Halit Ziya Uşaklıgil

10. Servet-i Fünun dergisinde eleştiri türünde yazan sanatçılarıdır. Eleştiri yazılarını "Kavgalarım" adlı eserinde toplamıştır.

Bu parçada sözü edilen sanatçı aşağıdakilerden hangisidir?

- A) Mehmet Rauf
- B) Ali Canip Yöntem
- C) Ahmet Vefik Paşa
- D) Hüseyin Cahit Yalçın

11. Türk-Yunan savaşı nedeniyle yazdığı "Cenge Giderken" adlı şiiriyle tanındı. Şiirlerinde hece ölçüsünü kullandı.

Bu parçada söz edilen sanatçı aşağıdakilerden hangisidir?

- A) Yahya Kemal Beyatlı
- B) Mehmet Emin Yurdakul
- C) Yakup Kadri Karaosmanoğlu
- D) Halide Edip Adıvar

12. Aşağıdakilerden hangisi Servetifünun Dönemi'nde görülen edebî akımlardan biri değildir?

- A) Parnasizm
- B) Sembolizm
- C) Klasisizm
- D) Realizm

13. Ahmet Haşim ile ilgili aşağıdakilerden hangisi yanlıştır?

- A) Şiirde musikinin önemine inanmaktadır.
- B) Sembolizm akımının etkisindedir.
- C) Fecriati'nin en önemli şairidir.
- D) Toplumsal temaları işlemiştir.

14. Aşağıdaki eserlerden hangisi Tevfik Fikret'e ait değildir?

- A) Tarih-i Kadim
- B) Haluk'un Defteri
- C) Tamat
- D) Doksan Beşe Doğru

15. Aşağıdaki eserlerden hangisi Servetifünun Dönemi'nde verilen öğretici metinlere örnek gösterilemez?

- A) Kırk Yıl
- B) Hac Yolunda
- C) Kiralık Konak
- D) Avrupa Mektupları

16. Aşağıdakilerden hangisi Reşat Nuri Güntekin'in roman türündeki eserlerinden biri değildir?

- A) Çalikuşu
- B) Yeşil Gece
- C) Yaprak Dökümü
- D) Anadolu Notları

17. Aşağıdakilerin hangisinde Halide Edip Adıvar'ın hatıra türündeki eserleri bir arada verilmiştir?

- A) Ateşten Gömlek – Vurun Kahpeye
- B) Sinekli Bakkal – Sonsuz Panayır
- C) Ateşten Gömlek – Dağa Çıkan Kurt
- D) Mor Salkımlı Ev – Türk'ün Ateşle İmtihanı

18. Aşağıdakilerin hangisinde Millî Edebiyat Dönemi'nin öncü sanatçıları bir arada verilmiştir?

- A) Ziya Gökalp, Ömer Seyfettin, Ali Canip Yöntem
- B) Ziya Gökalp, Mehmet Emin Yurdakul, Ahmet Haşim
- C) Fuat Köprülü, Tevfik Fikret, Yakup Kadri Karaosmanoğlu
- D) Ömer Seyfettin, Tahsin Nahit, Halide Edip Adıvar

19. Aşağıdaki eser-sanatçı eşleştirmelerinden hangisi yanlıştır?

- A) Sodom ve Gomore-Yakup Kadri Karaosmanoğlu
- B) Çoban Çeşmesi-Faruk Nafiz Çamlıbel
- C) Göl Saatleri-Ziya Gökalp
- D) Türk Saz Şairleri-Fuat Köprülü

20. Aşağıdakilerin hangisinde Servetifünun ve Millî Edebiyat Dönemi'nin karşılaştırılması yanlış yapılmıştır?

- A) Servetifünun Dönemi'nde aruz, Millî Edebiyat Dönemi'nde hece ölçüsü kullanılmıştır.
- B) Servetifünun Dönemi'nde sade, Millî Edebiyat Dönemi'nde ağır ve süslü bir dil kullanılmıştır.
- C) Servetifünun Dönemi'nde bireysel, Millî Edebiyat Dönemi'nde toplumsal konular işlenmiştir.
- D) Servetifünun şiirinde Batı ve divan edebiyatı, Millî Edebiyat Dönemi'nde halk edebiyatı etkileri görülür.

3. OTURUM

(975) GİRİŞİMCİLİK – 2

1. Neyin, nasıl, ne zaman, nerede üretileceğine karar veren ve bunun için gerekli tüm çalışmalarını yapan kişilere ait tanımlama aşağıdakilerden hangisidir?

- A) Girişimci B) Yönetici
C) Müdür D) Organizatör

2. Mal ve hizmet üretiminde kullanılan bedensel ve zihinsel çabaların tümüne ne ad verilir?

- A) Tabiat B) İşgücü
C) Sermaye D) Tüketim

3. Yaratıcı müteşebbisliğe yönelik yapılan açıklamalardan hangisi yanlıştır?

- A) Yeni bir fikir vardır.
B) Yeni bir buluş esas alınır.
C) Kârlılığa gereken önem verilir.
D) Mevcut işleyiş aynen sürdürülür.

4. Aşağıdakilerden hangisi, müteşebbisliğin işlevlerinden birini gösterir?

- A) Yeni pazarlara kapalı olmak.
B) Yeni girdi kaynakları bulabilmek.
C) Daha iyiyi ucuza üretmekten kaçınmak.
D) Kamu, devlet ilişkilerinden uzak durmak.

5. Aşağıdakilerden hangisi, dünyada müteşebbisliğin önemli bir konuma sahip olmasının nedenlerinden biri değildir?

- A) Teknolojinin gelişmesini sağlar.
B) Vergi gelirlerinin artmasına neden olur.
C) Altyapı hizmetlerinin giderilmesini sağlar.
D) Sadece büyük tasarrufların üretime katılmasını sağlar.

6. Bilim adamı Abraham H. Maslow'un ihtiyaç hiyerarşisine göre, fizyolojik ihtiyaçlardan sonra hangi ihtiyaçlar ortaya çıkmaktadır?

- A) Güvenlik
B) Saygı
C) Başarma
D) Sevgi ve ait olma

7. Tüketim mallarının özelliklerine yönelik, aşağıdaki açıklamalardan hangisi yanlıştır?

- A) Kişi ihtiyaçlarını karşılar.
B) Örgüt ihtiyaçlarını karşılar.
C) Başka işlemden geçerek kullanılırlar.
D) Bu malları kullananlara son tüketici denir.

8. Aşağıdakilerden hangisi, talebin özelliklerinden birini gösterir?

- A) Tanıma süreci
B) Satın alma gücü
C) Doygunluk dönemi
D) İç ve dış çevre ile etkileşim

9. Aşağıdakilerden hangisi bir işletmenin yaşamını sürdürmesi-ne yönelik bir hedef olamaz?

- A) İşletmenin, kısa vadeler için kurulması
B) Normal bir kazancın hedeflenmesi
C) İşletmenin sürekliliğinin hedeflenmesi
D) Mümkün olduğunca büyümenin esas alınması

10. Aşağıdakilerden hangisi, işletme yönetiminde başarılı bir yöneticinin "Vizyon sahipliği" niteliğini göstermektedir?

- A) Kişisel güveni ifade etme.
B) Kişisel desteğini ifade etme.
C) Etkileme ve duygularını anlayabilme.
D) Görüşlerini rahatça ifade edebilme.

11. Planlama ile ilgili verilen açıklamalardan hangisi doğru değildir?

- A) Planlama bilinçli bir süreçtir.
B) Doğabilecek riskleri en aza indirir.
C) Geleceği şans faktörüne bırakma işidir.
D) Geleceğe ilişkin kararların belirlenmesidir.

12. İşletmelerde insan davranışlarının hedeflenen amacı gerçekleştirmek için yönlendirilmesine ne denir?

- A) Motivasyon
B) Organizasyon
C) Yürütme
D) Yönelme

13. Toplam kalite yönetiminin anlamı ve unsurları kapsamında, kalite ile ilgili yapılan açıklamalardan hangisi doğrudur?

- A) Kalite, sonuç olarak kabul edilir.
B) Kalite, başlangıç olarak kabul edilir.
C) Kalite, hata ayıklama olarak hedeflenir.
D) Kalite, kontrol yapılanması olarak hedeflenir.

14. Aşağıdakilerden hangisi kamu işletmeleri kapsamında değildir?

- A) İktisadi Devlet Teşekkülleri
B) Kamu İktisadi Kuruluşları
C) Döner Sermaye İşletmeleri
D) Dernek ve Vakıfların İktisadi İşletmeleri.

15. Hukuki şekilleri bakımından "Adi Şirketler", aşağıdakilerden hangisinin kapsamında yer almaktadır?

- A) Özel İşletmeler
B) Kamu İşletmeleri
C) Karma İşletmeler
D) Yabancı sermayeli İşletmeler

3. OTURUM

16. Aşağıdaki açıklamalardan hangisi, Kamu İktisadi Teşebbüslerinin özelliklerinden biri değildir?

- A) KİT'ler tüzel kişiliklerdir.
- B) Zararları genel bütçeden karşılanır.
- C) KİT'lerin kurulması özel girişimcilikle olur.
- D) Yöneticileri büyük oranda devletçe belirlenir.

17. Aşağıdaki açıklamalardan hangisi, holdinglerin ortaya çıkacağı bir sakınca olarak kabul edilebilir?

- A) Tekelci bir güç oluşturması.
- B) Sermaye birikimine yol açması.
- C) Çok sayıda işletmelerden oluşması.
- D) Ana işletme etrafında oluşum sağlanması.

18. İki yada daha fazla işletme yöneticisinin, bir yada bir kaç konuda ne yapacaklarını saptayıp, kalıcı bir işbirliği yapmaları, aşağıdakilerden hangisi ile ifade edilmektedir?

- A) POOL
- B) RİNG
- C) TRÖST
- D) FÜZYON

19. Aşağıdaki açıklamalardan hangisi, satış işleminin gerçekleşmesine yönelik bir gerekliliktir?

- A) Arzın sağlanması
- B) Satıcının fiyata razı olması
- C) Ürün fiyatının tespit edilmesi
- D) Ürün mülkiyetinin devredilmesi

20. "Birincil talebi yaratma" açısından yapılacak bir reklam, aşağıdaki reklam çeşitlerinden hangisi ile ilgilidir?

- A) Yapanlar açısından
- B) Hedef kitle açısından
- C) Reklam içeriği açısından
- D) Amaçlar açısından

TEST BİTTİ.
CEVAPLARINIZI KONTROL EDİNİZ.

SINAV SÜRESİNCE UYULACAK KURALLAR

1. Adaylar, sınav kurallarına ve salon görevlilerinin tüm uyarılarına uymak zorundadırlar. Kurallara ve uyarılara uymayan adayların sınavları geçersiz sayılacaktır.
2. Sınav başladıktan sonra adayların salon görevlileri ve birbirleri ile konuşmaları, kalem, silgi vb. şeyleri istemeleri yasaktır.
3. Adaylar sınav süresince, sınav giriş belgesi ile birlikte kimlik belgelerinden birini (nüfus cüzdanı, pasaport veya sürücü belgesi) masalarının üzerinde bulundurmamak zorundadırlar.

SALON GÖREVLİLERİNCE SINAV BAŞLAMADAN ÖNCE ADAYLARA YAPILACAK SON UYARI

- Soracağınız bir şey var mı? Varsa şimdi sorunuz.
- Sınav başladıktan sonra sorularınıza cevap verilmeyecektir.
- Başlama zilini bekleyiniz.
- Hepinize başarılar dileriz.

(Salon başkanı başlama ve bitiş saatini tahtaya yazacaktır.)

Bu kitapçığın her hakkı saklıdır. Hangi amaçla olursa olsun, kitapçığın tamamının veya bir kısmının Millî Eğitim Bakanlığı Ölçme, Değerlendirme ve Sınav Hizmetleri Genel Müdürlüğünün yazılı izni olmadan kopya edilmesi, fotoğraflarının çekilmesi, bilgisayar ortamına alınması, herhangi bir yolla çoğaltılması, yayımlanması veya başka bir amaçla kullanılması yasaktır. Bu yasağa uymayanlar, doğabilecek cezai sorumluluğu ve kitapçığın hazırlanmasındaki mali külfeti peşinen kabullenmiş sayılır.

20 MART 2016 TARİHİNDE YAPILAN AÇIKÖĞRETİM LİSESİ / MESLEKİ AÇIKÖĞRETİM LİSESİ
2015-2016 ÖĞRETİM YILI 2. DÖNEM SINAVI 3. OTURUM T KİTAPÇIĞI CEVAP ANAHTARI

DİN KÜL. AHL. BİL. – 3

1. C
2. B
3. A
4. D
5. D
6. C
7. A
8. B
9. B
10. D
11. B
12. D
13. C
14. B
15. C
16. A
17. D
18. C
19. D
20. A

DİN KÜL. AHL. BİL. – 6

1. C
2. B
3. C
4. D
5. A
6. A
7. C
8. D
9. B
10. C
11. A
12. C
13. D
14. D
15. B
16. B
17. B
18. A
19. D
20. A

SEÇMELİ FELSEFE – 2

1. C
2. A
3. B
4. D
5. D
6. A
7. C
8. B
9. A
10. B
11. B
12. C
13. A
14. C
15. B
16. A
17. D
18. D
19. C
20. D

TARİH– 4

1. D
2. C
3. B
4. C
5. A
6. B
7. D
8. C
9. B
10. D
11. A
12. D
13. A
14. B
15. D
16. A
17. C
18. B
19. D
20. A

DİN KÜL. AHL. BİL. – 4

1. A
2. C
3. B
4. B
5. D
6. A
7. D
8. B
9. B
10. A
11. D
12. C
13. D
14. B
15. C
16. B
17. C
18. A
19. C
20. A

FELSEFE – 2

1. B
2. A
3. A
4. B
5. C
6. D
7. B
8. D
9. C
10. A
11. C
12. B
13. D
14. A
15. B
16. D
17. A
18. C
19. D
20. C

TARİH – 3

1. B
2. C
3. A
4. D
5. D
6. B
7. C
8. C
9. A
10. B
11. A
12. D
13. D
14. A
15. B
16. C
17. A
18. B
19. C
20. A

T.C. İNK. TAR. ATA. – 2

1. C
2. B
3. C
4. D
5. B
6. D
7. C
8. A
9. C
10. D
11. C
12. A
13. D
14. B
15. C
16. A
17. D
18. C
19. B
20. A

20 MART 2016 TARİHİNDE YAPILAN AÇIKÖĞRETİM LİSESİ / MESLEKİ AÇIKÖĞRETİM LİSESİ
2015-2016 ÖĞRETİM YILI 2. DÖNEM SINAVI 3. OTURUM T KİTAPÇIĞI CEVAP ANAHTARI

COĞRAFYA – 3

1. C
2. A
3. B
4. C
5. A
6. C
7. B
8. A
9. D
10. D
11. A
12. B
13. C
14. A
15. C
16. B
17. C
18. D
19. A
20. D

COĞRAFYA – 8

1. C
2. D
3. B
4. D
5. C
6. D
7. B
8. B
9. A
10. A
11. B
12. A
13. A
14. D
15. B
16. A
17. C
18. C
19. D
20. A

MATEMATİK – 5

1. B
2. B
3. C
4. A
5. D
6. A
7. D
8. C
9. B
10. D
11. B
12. A
13. D
14. A
15. C
16. D
17. C
18. D
19. C
20. A

SOSYOLOJİ – 2

1. D
2. A
3. C
4. B
5. C
6. A
7. D
8. B
9. D
10. A
11. C
12. D
13. C
14. B
15. A
16. B
17. B
18. A
19. D
20. C

COĞRAFYA – 4

1. B
2. B
3. C
4. A
5. A
6. B
7. D
8. B
9. D
10. C
11. D
12. A
13. C
14. D
15. A
16. D
17. A
18. C
19. D
20. A

MATEMATİK – 3

1. D
2. B
3. B
4. C
5. A
6. D
7. B
8. D
9. A
10. C
11. A
12. B
13. D
14. B
15. C
16. B
17. A
18. C
19. D
20. C

PSİKOLOJİ – 1

1. D
2. A
3. B
4. C
5. C
6. A
7. D
8. A
9. B
10. B
11. A
12. C
13. D
14. B
15. D
16. C
17. B
18. A
19. C
20. D

İNGİLİZCE – 3

1. B
2. D
3. A
4. C
5. D
6. B
7. C
8. B
9. C
10. D
11. A
12. B
13. C
14. C
15. A
16. B
17. A
18. A
19. C
20. D

20 MART 2016 TARİHİNDE YAPILAN AÇIKÖĞRETİM LİSESİ / MESLEKİ AÇIKÖĞRETİM LİSESİ
2015-2016 ÖĞRETİM YILI 2. DÖNEM SINAVI 3. OTURUM T KİTAPÇIĞI CEVAP ANAHTARI

ALMANCA – 3

1. B
2. A
3. D
4. C
5. B
6. C
7. A
8. B
9. D
10. B
11. A
12. D
13. C
14. C
15. D
16. B
17. A
18. C
19. A
20. D

DİL VE ANLATIM – 3

1. C
2. D
3. B
4. D
5. B
6. A
7. C
8. D
9. A
10. A
11. B
12. C
13. B
14. A
15. A
16. B
17. B
18. C
19. D
20. D

DİL VE ANLATIM – 6

1. A
2. D
3. C
4. A
5. A
6. B
7. C
8. C
9. A
10. C
11. B
12. B
13. D
14. B
15. B
16. D
17. D
18. A
19. C
20. D

TÜRK EDEBİYATI – 6

1. C
2. B
3. D
4. D
5. B
6. A
7. A
8. C
9. D
10. B
11. C
12. B
13. A
14. D
15. C
16. C
17. A
18. D
19. B
20. A

FRANSIZCA – 3

1. C
2. B
3. A
4. D
5. D
6. A
7. B
8. C
9. C
10. B
11. A
12. D
13. B
14. B
15. C
16. A
17. D
18. B
19. A
20. C

DİL VE ANLATIM – 5

1. D
2. C
3. A
4. C
5. D
6. D
7. C
8. A
9. D
10. C
11. B
12. B
13. A
14. B
15. A
16. D
17. C
18. B
19. A
20. B

TÜRK EDEBİYATI – 3

1. C
2. D
3. B
4. B
5. D
6. A
7. D
8. A
9. A
10. B
11. C
12. D
13. C
14. D
15. B
16. B
17. D
18. B
19. B
20. C

FİZİK – 6

1. A
2. D
3. B
4. D
5. C
6. B
7. C
8. B
9. B
10. D
11. A
12. D
13. B
14. C
15. A
16. D
17. A
18. C
19. B
20. C

20 MART 2016 TARİHİNDE YAPILAN AÇIKÖĞRETİM LİSESİ / MESLEKİ AÇIKÖĞRETİM LİSESİ
2015-2016 ÖĞRETİM YILI 2. DÖNEM SINAVI 3. OTURUM T KİTAPÇIĞI CEVAP ANAHTARI

FİZİK – 7

1. A
2. A
3. D
4. B
5. C
6. C
7. B
8. C
9. A
10. B
11. D
12. C
13. B
14. A
15. C
16. D
17. B
18. D
19. C
20. A

KİMYA – 3

1. C
2. D
3. B
4. A
5. B
6. A
7. D
8. C
9. D
10. C
11. B
12. A
13. C
14. D
15. A
16. B
17. D
18. B
19. A
20. C

KİMYA – 5

1. B
2. C
3. D
4. A
5. C
6. B
7. D
8. A
9. D
10. C
11. A
12. B
13. C
14. D
15. B
16. A
17. B
18. C
19. D
20. A

BİYOLOJİ – 8

1. D
2. C
3. A
4. B
5. C
6. A
7. C
8. A
9. B
10. C
11. A
12. B
13. C
14. D
15. B
16. C
17. D
18. A
19. B
20. D

FİZİK – 8

1. A
2. D
3. D
4. C
5. B
6. A
7. C
8. C
9. B
10. A
11. D
12. C
13. B
14. D
15. D
16. B
17. A
18. A
19. D
20. C

KİMYA – 4

1. D
2. C
3. A
4. D
5. A
6. B
7. D
8. D
9. C
10. B
11. A
12. B
13. A
14. D
15. C
16. A
17. D
18. B
19. A
20. D

BİYOLOJİ – 5

1. D
2. D
3. A
4. C
5. B
6. C
7. B
8. A
9. D
10. C
11. C
12. A
13. D
14. C
15. A
16. B
17. D
18. B
19. A
20. D

ÇAĞ. TÜRK DÜN. TAR. – 2

1. B
2. D
3. A
4. C
5. B
6. D
7. C
8. B
9. A
10. B
11. D
12. C
13. A
14. C
15. D
16. B
17. C
18. A
19. B
20. B

20 MART 2016 TARİHİNDE YAPILAN AÇIKÖĞRETİM LİSESİ / MESLEKİ AÇIKÖĞRETİM LİSESİ
2015-2016 ÖĞRETİM YILI 2. DÖNEM SINAVI 3. OTURUM T KİTAPÇIĞI CEVAP ANAHTARI

EKONOMİ – 2

1. C
2. D
3. B
4. A
5. C
6. D
7. C
8. A
9. B
10. A
11. A
12. B
13. D
14. C
15. B
16. B
17. A
18. D
19. C
20. D

MANTIK – 1

1. C
2. A
3. D
4. B
5. D
6. C
7. D
8. A
9. B
10. C
11. D
12. B
13. D
14. A
15. C
16. B
17. A
18. D
19. A
20. B

ALMANCA – 6

1. C
2. D
3. A
4. B
5. C
6. B
7. D
8. A
9. D
10. A
11. B
12. C
13. D
14. A
15. D
16. B
17. A
18. C
19. B
20. C

SEÇMELİ TARİH – 3

1. B
2. C
3. B
4. D
5. C
6. D
7. C
8. D
9. B
10. A
11. A
12. C
13. B
14. D
15. A
16. B
17. C
18. A
19. D
20. D

MATEMATİK – 8

1. A
2. C
3. D
4. B
5. B
6. D
7. C
8. B
9. A
10. B
11. C
12. A
13. D
14. C
15. D
16. A
17. D
18. B
19. C
20. A

İNGİLİZCE – 6

1. A
2. D
3. C
4. B
5. D
6. C
7. D
8. A
9. B
10. D
11. C
12. A
13. D
14. C
15. B
16. C
17. C
18. B
19. A
20. A

FRANSIZCA – 6

1. D
2. A
3. D
4. C
5. C
6. D
7. B
8. D
9. A
10. C
11. D
12. A
13. C
14. B
15. D
16. B
17. C
18. A
19. B
20. B

SEÇMELİ TARİH – 4

1. C
2. D
3. B
4. A
5. D
6. C
7. B
8. A
9. B
10. D
11. C
12. A
13. B
14. D
15. C
16. A
17. D
18. A
19. B
20. C

20 MART 2016 TARİHİNDE YAPILAN AÇIKÖĞRETİM LİSESİ / MESLEKİ AÇIKÖĞRETİM LİSESİ
2015-2016 ÖĞRETİM YILI 2. DÖNEM SINAVI 3. OTURUM T KİTAPÇIĞI CEVAP ANAHTARI

SEÇMELİ COĞRAFYA – 3

1. D
2. A
3. D
4. B
5. C
6. B
7. C
8. D
9. D
10. C
11. B
12. B
13. A
14. C
15. C
16. B
17. A
18. D
19. B
20. A

HZ. MUHAMMED'İN HAY. – 3

1. D
2. A
3. B
4. A
5. D
6. C
7. A
8. B
9. D
10. B
11. C
12. A
13. B
14. A
15. C
16. D
17. B
18. D
19. B
20. A

DEM. VE İNSAN HAKLARI – 2

1. B
2. D
3. A
4. C
5. A
6. C
7. B
8. A
9. B
10. D
11. B
12. C
13. A
14. C
15. D
16. C
17. D
18. A
19. D
20. B

SEÇ. DİL ANLA. – 5

1. D
2. B
3. C
4. C
5. B
6. D
7. A
8. D
9. A
10. B
11. D
12. B
13. C
14. D
15. B
16. A
17. C
18. C
19. D
20. A

SEÇMELİ COĞRAFYA – 4

1. C
2. A
3. D
4. A
5. B
6. C
7. D
8. A
9. B
10. B
11. C
12. D
13. B
14. B
15. D
16. C
17. C
18. B
19. D
20. A

HZ. MUHAMMED'İN HAY. – 4

1. B
2. D
3. A
4. C
5. D
6. B
7. C
8. A
9. B
10. C
11. B
12. A
13. A
14. C
15. B
16. A
17. D
18. D
19. A
20. C

SEÇ. DİL ANLA. – 3

1. B
2. A
3. C
4. A
5. C
6. D
7. B
8. C
9. B
10. D
11. A
12. D
13. C
14. A
15. B
16. C
17. B
18. D
19. A
20. C

SEÇ. DİL ANLA. – 6

1. C
2. B
3. C
4. A
5. B
6. B
7. C
8. D
9. C
10. D
11. B
12. D
13. C
14. A
15. D
16. D
17. A
18. A
19. B
20. C

20 MART 2016 TARİHİNDE YAPILAN AÇIKÖĞRETİM LİSESİ / MESLEKİ AÇIKÖĞRETİM LİSESİ
2015-2016 ÖĞRETİM YILI 2. DÖNEM SINAVI 3. OTURUM T KİTAPÇIĞI CEVAP ANAHTARI

SEÇMELİ TÜRK EDEB. – 3

1. A
2. C
3. B
4. D
5. C
6. D
7. B
8. D
9. A
10. B
11. C
12. B
13. D
14. D
15. C
16. B
17. B
18. A
19. A
20. D

GİRİŞİMCİLİK – 2

1. A
2. B
3. D
4. B
5. D
6. A
7. C
8. B
9. A
10. D
11. C
12. A
13. B
14. D
15. A
16. C
17. A
18. B
19. C
20. D

SEÇMELİ TÜRK EDEB. – 6

1. A
2. D
3. A
4. A
5. D
6. B
7. A
8. D
9. B
10. D
11. B
12. C
13. D
14. C
15. C
16. D
17. D
18. A
19. C
20. B