

T.C.  
MİLLÎ EĞİTİM BAKANLIĞI  
ÖLÇME, DEĞERLENDİRME VE  
SINAV HİZMETLERİ GENEL MÜDÜRLÜĞÜ



AÇIK ÖĞRETİM LİSESİ / MESLEKİ AÇIK ÖĞRETİM LİSESİ  
2016 - 2017 ÖĞRETİM YILI  
3. DÖNEM SINAVI

1.  
OTURUM

1 TEMMUZ 2017 Saat: 09.30

<u>DERS KODU VE ADI</u>	<u>SAYFA</u>	<u>DERS KODU VE ADI</u>	<u>SAYFA</u>	<u>DERS KODU VE ADI</u>	<u>SAYFA</u>
(111) DİN KÜL. AHL. BİL. – 1	2	(407) DİL VE ANLATIM – 7	21	(502) İNGİLİZCE – 8	45
(112) DİN KÜL. AHL. BİL. – 2	3	(408) DİL VE ANLATIM – 8	23	(502) ALMANCA – 8	45
(115) DİN KÜL. AHL. BİL. – 5	4	(414) TÜRK EDEBİYATI – 4	24	(502) FRANZIZCA – 8	46
(121) FELSEFE – 1	5	(417) TÜRK EDEBİYATI – 7	25	(511) FIKIH – 1	47
(123) SEÇMELİ FELSEFE – 1	7	(418) TÜRK EDEBİYATI – 8	26	(532) HZ. MUHAMMED'İN HAY. – 2	48
(132) TARİH – 2	8	(421) FİZİK – 1	28	(609) MATEMATİK – 6	50
(136) TARİH – 6	9	(425) FİZİK – 5	29	(611) KARŞ. DİN. TAR. – 1	51
(151) COĞRAFYA – 1	10	(432) KİMYA – 2	31	(617) SEÇ. DİL VE ANLA. – 7	52
(155) COĞRAFYA – 5	11	(436) KİMYA – 6	32	(618) SEÇ. DİL VE ANLA. – 8	54
(157) COĞRAFYA – 7	12	(441) BİYOLOJİ – 1	33	(627) SEÇ. TÜRK ED. – 7	55
(181) İNGİLİZCE – 1	13	(443) BİYOLOJİ – 3	35	(628) SEÇ. TÜRK ED. – 8	56
(181) ALMANCA – 1	14	(446) BİYOLOJİ – 6	36	(711) İSLAM TARİHİ – 1	57
(181) FRANZIZCA – 1	15	(461) EKONOMİ – 1	37	(813) AKAİD VE KELAM – 1	58
(244) İNGİLİZCE – 5	16	(465) TEMEL DİNİ BİL. – 1	38	(931) SİYER – 1	60
(244) ALMANCA – 5	17	(477) İŞLETME – 2	40	(974) GİRİŞİMCİLİK – 1	61
(244) FRANZIZCA – 5	18	(479) MANTIK – 2	41	(999) MATEMATİK – 2	62
(401) DİL VE ANLATIM – 1	18	(484) SAĞLIK BİLGİSİ – 2	42		
(402) DİL VE ANLATIM – 2	20	(491) TRAF. VE İLK YARD. – 1	43		

**ADAYLARIN DİKKATİNE!**

- Her ders için 20 soru bulunmaktadır. Bu oturumda **180** dakikalık cevaplama süreniz vardır. Sınav başladıktan sonra ilk **30** dakika tamamlanmadan dışarı çıkmayınız.
- Sınav sırasında çanta, cep telefonu, saat, kablosuz iletişim sağlayan cihazlar ve kulaklık, kolye, küpe, bilezik, yüzük, broş ve benzeri eşyalar ile her türlü elektronik ve/veya mekanik cihazları yanınızda bulundurmuyunuz. Bu araçları yanınızda bulundurmanız ve kopya çekmeye teşebbüs etmeniz hâlinde sınavınız geçersiz sayılacaktır.
- Başvuru şartlarını taşımadığınız hâlde sınava girmeniz, kopya çekmeniz, başka adayın sınav evrakını kullanmanız, geçerli kimlik belgenizi ve sınav giriş belgenizi ibraz edemediğiniz durumlarda sınavınız geçersiz sayılacaktır.
- Sınavın değerlendirilmesi aşamasında, bilgisayar ortamında yapılan kopya analizinde sistemin ikili ve/veya toplu kopya tespiti hâlinde sınavınız geçersiz sayılacaktır.
- Adaylar, sınav kurallarına ve salon görevlilerinin tüm uyarılarına uymak zorundadır. Kurallara ve uyarılara uymayan adayların sınavları geçersiz sayılacaktır.**
- Sınav başladıktan sonra adayların salon görevlileri ve birbirleri ile konuşmaları; kalem, silgi vb. şeyleri istemeleri yasaktır.
- Adaylar sınav süresince, sınav giriş belgesi ile geçerli kimlik belgelerinden birinin aslını (fotoğraflı nüfus cüzdanı, pasaport veya sürücü belgesi) masalarının üzerinde bulundurmamak zorundadır.
- Sınav evraklarını teslim etmeyen, soru kitapçıklarının sayfalarından bir kısmını eksik teslim edenlerin sınavları geçersiz sayılacaktır.**
- Sınav başlamadan önce kitapçığın arkasındaki açıklamaları okuyunuz.

**BAŞLAYINIZ DENMEDEN SORU KİTAPÇIKLARINI AÇMAYINIZ.**

## 1. OTURUM

### (111) DİN KÜL. AHL. BİL. – 1

1. I. İslam'ın ana kaynağıdır.  
II. Bütün sahabe tarafından ezberlenmiştir.  
III. Hz. Peygamber zamanında yazıya geçirilmiştir.  
IV. Hz. Peygamber zamanında iki kapak arasında toplanmıştır.  
**Kur'an-ı Kerim'le ilgili bilgilerden doğru olanlar hangisinde birlikte verilmiştir?**
- A) I ve III. B) I ve IV.  
C) II ve III. D) II ve IV.
2. "Hak Dini Kur'an Dili" adlı tefsir kitabı aşağıdakilerden hangisine aittir?
- A) Mehmet Akif Ersoy  
B) Ahmet Hamdi Akseki  
C) Hasan Basri Çantay  
D) Muhammed Hamdi Yazır
3. Aşağıdakilerden hangisi Kur'an-ı Kerim'in iç düzeniyle ilgili kavramlar arasında yer almaz?
- A) Ayet B) Sure  
C) Tefsir D) Cüz
4. Hz. Ömer ve Hz. Osman dönemlerinde İslam dini hızla yayılmış, birçok millet Müslüman olmuştu. Farklı coğrafyalarda yaşayan milletler İslam'ın ilkelerini öğrenmek ve uygulamak için Kur'an-ı Kerim'e ihtiyaç duymuştu. Kur'an-ı Kerim'in farklı okunması da ihtilaflara sebep olmuştu.  
**Bu durum aşağıdakilerden hangisine neden olmuştur?**
- A) Kur'an-ı Kerim'in ezberlenmesine  
B) Kur'an-ı Kerim'in çoğaltılmasına  
C) Kur'an-ı Kerim'in mealinin yapılmasına  
D) Kur'an-ı Kerim'in iki kapak arasında toplanmasına
5. Hz. Muhammed 632 yılında hac ibadetini yapmak üzere Mekke'ye gitti. Hac esnasında 8 Mart 632 Cuma günü Arafat'ta bir araya gelen yüz binden fazla Müslümana hitaben bir konuşma yaptı.  
**Bu konuşma İslam tarihinde aşağıdakilerden hangisiyle adlandırılır?**
- A) Veda haccı B) Mekke vaazı  
C) Veda hutbesi D) Son hitap

6. Aşağıdakilerden hangisi Medine Sözleşmesi'nin maddeleri arasında yer almaz?
- A) Yahudiler kendi dinlerinde serbest olacak.  
B) Şehir dışından bir saldırı olursa Medine birlikte savunulacak.  
C) İki taraftan biri üçüncü bir tarafla savaşırsa diğer taraf yardımcı olacak.  
D) Müslümanlarla Yahudiler arasında bir anlaşmazlıkta iki taraftan birer hakem tayin edilecek.
7. Hz. Peygamber Mekke döneminde bütün engellemelere rağmen, Mekkelilere ve Mekke dışından gelenlere İslam'ı anlatmaya devam etti. Bu çerçevede 620 yılında Medine'den gelen bir grupla görüştü ve onları İslam'a davet etti. Onlar da bu daveti kabul edip Müslüman oldular. Daha sonraki yıl daha kalabalık bir grup Medine'den gelip aynı yerde yine Hz. Peygamber'e biat edip İslam'ı kabul etti.  
**Metinde geçen olay aşağıdaki yerlerden hangisinde gerçekleşmiştir?**
- A) Kâbe  
B) Akabe  
C) Daru'l-Erkam  
D) Beni Saide gölgesi
8. Sözlükte "bir işi güzel yapma, güzelleştirme, iyi ve güzel söz söyleme" gibi anlamlara gelir. Terim olarak, "Kur'an-ı Kerim'in harflerinin çıkış yerlerine uygun olarak hatasız biçimde okunmasını öğreten ilimdir."  
**Tanımlanan kavram aşağıdakilerden hangisidir?**
- A) Tecvit B) Mukabele  
C) Hatim D) Tertil
9. "Yaratan Rabb'inin adıyla oku!  
O, insanı aşılansmış bir yumurtadan yarattı.  
Oku, Rabb'in sonsuz iyilik sahibidir.  
Kalemle (yazmayı) öğreten O'dur.  
İnsana bilmediğini öğreten O'dur."  
(Alak suresi, 1-5. ayetler)  
**Bu ayetlerle ilgili olarak aşağıdakilerden hangisi doğrudur?**
- A) Hz. Peygamber'e son inen ayetlerdir.  
B) Hz. Peygamber'e ilk inen ayetlerdir.  
C) Hicretten sonra inen ilk ayetlerdir.  
D) Tevhit inancıyla ilgili ayetlerdir.

10. Temiz su bulunmadığında veya suyun kullanılmasına engel bir sebep bulunduğu takdirde temiz toprakla alınır.  
**Tanımlanan kavram aşağıdakilerden hangisidir?**
- A) Abdest B) Gusül  
C) Teyemmüm D) Tezkiye
11. "De ki: O Allah birdir. Allah samettir. O, doğurmamış ve doğmamıştır. O'nun hiçbir dengi yoktur."  
(İhlas suresi, 1-4. ayetler)  
**Bu ayetlerde aşağıdaki inanç biçimlerinden hangisi vurgulanmaktadır?**
- A) Paganizm B) Politeizm  
C) Ateizm D) Monoteizm
12. "... Yaptıklarınızdan mutlaka sorumlu tutulacaksınız."  
(Nahl suresi, 93. ayet)  
"Sizi boş ve anlamsız yere yarattığımızı ve bize dönmek zorunda olmadığınızı mı zannediyorsunuz?"  
(Mü'minün suresi, 115. ayet)  
**Bu ayetlerden aşağıdakilerden hangisi çıkarılamaz?**
- A) Evrenin bir düzen içinde yaratıldığı  
B) İnsanın akıl ve irade sahibi olduğu  
C) Dünya hayatının amaçsız olmadığı  
D) Her türlü eylemin hesabının sorulacağı
13. Mekke'den Medine'ye hicret edenleri yurtlarına kabul eden ve onlara her türlü yardımı yapan Müslümanlardır.  
**Tanımlanan kavram aşağıdakilerden hangisidir?**
- A) Muhacir B) Ensar  
C) Muvahhidün D) Muslihün
14. Hinduizm'deki üç tanrıdan Brahma yaratıcı, Vişnu koruyucu, Şiva ise yok edicidir. Şintoizm'de de Güneş, Ay, Fırtına, Deniz, Ateş ve Gıda tanrıları vardır.  
**Metinde anlatılan dinlerin aşağıdaki inanç biçimlerinden hangisine sahip oldukları söylenir?**
- A) Politeizm B) Monoteizm  
C) Ateizm D) Pragmatizm
15. Cuma ve bayram namazları öncesinde gusül abdesti almanın hükmü nedir?
- A) Farz-ı ayn B) Farz-ı kifâye  
C) Vâcib D) Sünnet

## 1. OTURUM

16. Allah tarafından Cebrail aracılığıyla Hz. Muhammed'e (sav.) vahiy yoluyla bildirilen ve sonsuza kadar değişmeden devam edecek olan son ilahi mesajdır.

**Bu metinde aşağıdakilerden hangisi tanımlanmıştır?**

- A) Hadis                      B) Sünnet  
C) Kur'an                     D) Tebliğ

17. • Elleri dirseklere kadar yıkamak  
• Yüzü yıkamak  
• Başı meshetmek  
• Ayakları topuklarla birlikte yıkamak

**Bunlar aşağıdakilerden hangisinin farzlarıdır?**

- A) Namaz                      B) Teyemmüm  
C) Gusül                      D) Abdest

18. **Aşağıdakilerden hangisi ibadetin bireysel faydalarından biri değildir?**

- A) Sorumluluk bilinci kazandırır.  
B) Toplumsal refaha katkıda bulunur.  
C) Güzel ahlak sahibi olmasını sağlar.  
D) İnsanın Allah'a olan sevgi ve saygısını artırır.

19. Sözlükte saygı, itaat, kulluk, tapınma, boyun eğme gibi anlamlara gelir. Terim olarak ise, Yüce Yaratıcı'ya olan sevgi, saygı ve inancı çeşitli davranışlarla ortaya koymaktır.

**Tanımlanan kavram aşağıdakilerden hangisidir?**

- A) Ahlak                      B) Tezkiye  
C) İbadet                      D) Uhuvvet

20. "Ey iman edenler! Allah'a, Resulüne, Resulüne indirdiği kitaba ve daha önce indirdiği kitaba iman edin..."  
(Nisa suresi, 136. ayet)

**Bu ayet, Kur'an'ın ana konularından hangisi ile ilgilidir?**

- A) İnanç                      B) İbadet  
C) Ahlak                      D) Muamelât

### (112) DİN KÜL. AHL. BİL. – 2

1. Bir toplumda genel kabul gören veya benimsenen her türlü duygu, düşünce, davranış ve kurala denir.

**Bu cümle ile tanımlanan kavram aşağıdakilerden hangisidir?**

- A) Âdet                      B) Örf  
C) Kültür                     D) Değer

2. **Aşağıdakilerden hangisi değerlerin özellikleri arasında yer almaz?**

- A) Bireyin bilincinde yer alan ve davranışı yönlendiren unsurlardır.  
B) Toplum ya da fertler tarafından benimsenen birleştirici unsurlardır.  
C) Birey ve toplumun maddi ihtiyaçlarını karşılamak için getirilmiş yargılardır.  
D) Toplumun manevi ve sosyal ihtiyaçlarını karşıladığına ve fertlerin iyiliği için olduğuna inanılan ölçütlerdir.

3. Çocuğun dünyayı anlama çabası içerisinde çevresinden gördüğü etkiler önemlidir. Çünkü paylaşım, sevgi, saygı, adalet ve hoşgörü gibi birçok değer çocuklukta davranışlara yerleşerek zamanla karakter haline gelmektedir.

**Bu metinde, aşağıdakilerden hangisinin değerlerin oluşumuna etkisi vurgulanmaktadır?**

- A) Din                      B) Aile  
C) Eğitim                    D) Örf

4. Bir toplumda eskiden beri uygulana gelen nesilden nesile iletilen kültürel değer, bilgi, alışkanlık, töre ve davranışlara örf denir. Dolayısıyla örf insanların çoğunluğunun benimseyip alışkanlık haline getirdiği işlerdir.

**Buna göre aşağıdakilerden hangisi örf örneği oluşturur?**

- A) Evliliklerde düğün yapmak  
B) Kabirleri ziyaret etmek  
C) Bayramlarda ziyaretleşmek  
D) Erkek çocukları sünnet ettirmek

5. O, milletimizin varlığı, hürriyeti ve istiklal demektir. Onda bu yüce milletin imanı, destanlaşmış kahramanlığı, bağımsızlığı ve bağımsızlığının şanlı tarihi anlatılır.

**Bu metinde milletimizi birleştiren hangi temel değerden bahsedilmektedir?**

- A) Bayrak Şiiri  
B) Çanakkale Şiiri  
C) İstiklal Marşı  
D) Kurtuluş Destanı

6. I. Din  
II. Cinsiyet  
III. Aile  
IV. Sağlık

**Bunlardan hangileri değerlerin oluşumu üzerinde doğrudan etkili değildir?**

- A) I ve III.                    B) I ve IV.  
C) II ve III.                   D) II ve IV.

7. Hz. Peygamber veda hutbesinde kan davası, kölelik, faiz ve tefeciliği yasaklamış, kadınların haklarının korunmasını istemiştir. İnsanların can, mal, namus ve özgürlüklerinin dokunulmaz olduğunu bildirmiştir. Buradan hareketle İslam bilginleri dinin amacının "zarûrât-ı hamse" denilen beş temel ilkeyi korumak olduğunu ifade etmişlerdir.

**Aşağıdakilerden hangisi bu ilkelerden biri değildir?**

- A) Örf                      B) Akıl  
C) Din                      D) Can

8. "Ve de ki: Hak, Rabbinizdendir. Öyleyse dileyen iman etsin, dileyen inkâr etsin..."

(Kehf suresi, 29. ayet)

"Kim zerre miktarı hayır yapmışsa onu görür. Kim de zerre miktarı şer işlemişse onu görür."

(Zilzâl suresi, 7-8. ayetler)

**Bu ayetlerden aşağıdakilerden hangisine ulaşılabılır?**

- A) Din duygusu fitridir.  
B) Din bireyi muhatap alır.  
C) Dinin amacı güzel ahlakıdır.  
D) Din, birey ve toplum dengesini kurar.

9. **Aşağıdakilerden hangisi laikliğin temel amaçları arasında değerlendirilemez?**

- A) Dinde ruhbanlık anlayışının oluşmasını önlemek  
B) Kişilerin din ve inanç hürriyetini güvence altına almak  
C) Her vatandaşa eğitimden eşit ölçüde yararlanma imkânı sunmak  
D) Devletin din ve mezhepler karşısındaki tarafsızlığını sağlamak

10. Türkiye Cumhuriyeti Devleti, vatandaşlarının dinlerini öğrenme taleplerini karşılamak ve öğrenmelerine yardımcı olmak için çeşitli imkânlar sağlamıştır.

**Aşağıdakilerden hangisi bunlardan biri değildir?**

- A) İlahiyat fakültelerinin açılması  
B) İmam-Hatip okullarının kurulması  
C) Diyanet İşleri Başkanlığının kurulması  
D) Din adamlarının özel bir statüye kavuşturulması

# 1. OTURUM

11. Aşağıdakilerden hangisi Türklerin İslam dinini benimsemesinde etkili olan sebepler arasında yer almaz?

- A) Gök Tanrı inancı ile Tevhit inancı arasındaki benzerlik
- B) İslam devletinin sağladığı ekonomik avantajlar
- C) Süfi geleneğe bağlı dervişlerin yaşayışları
- D) İslam dininin hoşgörü ve sevgi anlayışı

12. Türklerde İslam anlayışının oluşmasında etkisi olan âlimlerdendir. Kûfe'de doğmuştur. Asıl adı Nûman b. Sâbit'tir. Birçok talebe yetiştirmiştir. En önemli eseri Fıkh-ı Ekber'dir.

**Hakkında bilgi verilen İslam âlimi aşağıdakilerden hangisidir?**

- A) Ebû Hanife
- B) Mâtürîdî
- C) İmam Şafii
- D) Ebû Yusuf

13. "er-Risale" ve "el-Ümm" adlı eserler aşağıdakilerden hangisine aittir?

- A) Maturidi
- B) Eş'ari
- C) Ebu Hanife
- D) Şafii

14. Türkistan'da "Hazreti Türkistan" olarak tanınan âlim aşağıdakilerden hangisidir?

- A) Ahmet Yesevi
- B) Ahmet Yükneki
- C) Yusuf Has Hacib
- D) Hacı Bektaş-ı Veli

15. 13. yüzyılda Anadolu'da kurulmuştur. Prensipleri, temelde Kur'an ve Sünnet'e dayanır. Dini, ahlaki kurallarla iktisâdi kuralları birleştiren ve sosyal yapıya kavuşturan bir teşkilattir.

**Hakkında bilgi verilen teşkilat aşağıdakilerden hangisidir?**

- A) Hisbe
- B) Debbağlık
- C) Bâciyan-ı Türk
- D) Ahilik

16. Anadolu'da tasavvuf anlayışının yerleşmesinde etkili olan âlimlerdendir. Asıl adı Seyyid Muhammed bin İbrahim Ata'dır. Dini eğitimini Hoca Ahmet Yesevi'nin talebelerinden almıştır.

**Hakkında bilgi verilen âlim aşağıdakilerden hangisidir?**

- A) Yunus Emre
- B) Hacı Bektaş-ı Veli
- C) Hacı Bayram-ı Veli
- D) Mevlâna Celaleddin-i Rumi

17. İlim ilim bilmektir  
İlim kendin bilmektir  
Sen kendini bilmezsin  
Ya nice okumaktır.

**Bu dörtlük Türklerin İslam anlayışının oluşmasında etkili olan hangi âlime aittir?**

- A) Ahi Evran
- B) Ahmet Yesevi
- C) Yunus Emre
- D) Hacı Bektaş-ı Veli

18. Aşağıdakilerden hangisi tıp alanında önemli hizmetleri olan âlimlerdendir?

- A) Uluğ Bey
- B) Ali Kuşçu
- C) Birunî
- D) İbn-i Sina

19. Mevlana Farsça yazmış olduğu eserinde vezirlerle, kısa ibretlik hikâyelerle insanların gönüllerine hitap etmiş ve İslam dinini sevdirmeye çalışmıştır.

**Bu metinde bahsedilen eser aşağıdakilerden hangisidir?**

- A) Mesnevi
- B) Makâlât
- C) Divan-ı Kebir
- D) Risaletü'n-Nushiyye

20. Aşağıdakilerden hangisi ahiliğin temel prensiplerinden değildir?

- A) Sözünde vefalı olacaksınız!
- B) Akrabalarını gözeteceksiniz!
- C) İyi kalpli ve cömert olacaksınız!
- D) İftira ve gıybetten sakınacaksınız!

## (115) DİN KÜL. AHL. BİL. – 5

1. Aşağıdakilerden hangisi İslam düşüncesindeki yorumları birleştiren unsurlardan biri değildir?

- A) Hilafet
- B) Nübüvvet
- C) Tevhit
- D) Ahiret

2. I. Güzel ahlakın gelişmesini sağlar.  
II. Ekonomik kalkınma sağlar.  
III. Kötülüklerden alıkoyar.  
IV. İlmin gelişmesine katkıda bulunur.

**Bunlardan hangileri ibadetlerin doğrudan faydaları arasında değerlendirilemez?**

- A) I ve III.
- B) I ve IV.
- C) II ve III.
- D) II ve IV.

3. Sözlükte görüş, akım, gidilen ve takip edilen yol anlamına gelir. Dini terim olarak kendi içinde tutarlı bir metot ve düşünce sistemine sahip olan, belli fikirler ve şahıslar etrafında oluşan itikadî veya fikhî oluşumlardır.

**Hakkında bilgi verilen kavram aşağıdakilerden hangisidir?**

- A) Din
- B) Mezhep
- C) İnanç
- D) Kültür

4. • Sıffin Savaşı sonucunda ortaya çıkan siyasi - itikadî mezheptir.  
• Bu mezhebe göre ameller, imanın bir parçasıdır.  
• İbadetleri terk eden veya büyük günah işleyen kimse Müslümanlıktan çıkar.

**Hakkında bilgi verilen mezhep aşağıdakilerden hangisidir?**

- A) Eş'arilik
- B) Mutezile
- C) Haricilik
- D) Şia

5. Aşağıdakilerden hangisi İslam düşüncesindeki ameli- fihki mezheplerdendir?

- A) Haricilik
- B) Caferilik
- C) Mutezile
- D) Eş'arilik

6. Kur'an'da bazı müteşabih ayetlerde; "Allah'ın eli", "Allah'ın yüzü" gibi ifadeler geçmektedir. Bazı İslam âlimleri bu ifadelerden hareket ederek Allah'ın insan gibi elinin, yüzünün ve diğer azalarının bulunduğu görüşünü ileri sürmüştür. Bazıları da bu ifadeleri "Allah'ın kudreti", "Allah'ın Zatı" şeklinde yorumlamışlardır. Bu durum farklı mezheplerin ortaya çıkmasına sebep olmuştur.

**Bu metin İslam düşüncesindeki yorum farklılıklarının sebeplerinden hangisine örnek oluşturur?**

- A) İnsanın yapısı
- B) Ortam ve kültür
- C) Dini metinler
- D) Sosyal ve siyasi sebepler

7. Kültürümüzde "gül" aşağıdakilerden hangisine duyulan sevgiyi sembolize eder?

- A) Allah'a
- B) Kur'an'ı Kerim'e
- C) Sahabeye
- D) Hz. Muhammed'e

# 1. OTURUM

8. Necranlı Hristiyanlardan bir heyet Hz. Peygamberle görüşmek için Medine'ye gelmişti. O sırada Hz. Peygamber Mescid-i Nebi'de bulunuyordu. Hz. Peygamber onları karşıladı. Bir süre sonra Necranlı Hristiyanlar ibadet vakitlerinin geldiğini söylediler ve ayağa kalktılar. Hep birlikte doğuya yönelerek mescitte ibadet etmek istediler. Hz. Peygamber onların mescitte ibadet etmelerine izin verdi.

**Hz. Peygamber'in bu tutumu O'nun aşağıdaki özelliklerinden hangisine örnek oluşturur?**

- A) Adalet B) Hoşgörü  
C) Kararlılık D) Sabır

9. Şehitlerin ser çeşmesi, evliyanın bağı başı, Fatma ana gözü yaşı, Hasan ile Hüseyin'dir. Hz. Ali babaları, Muhammed'dir dedeleri Arşın iki gölgeleri Hasan ile Hüseyin'dir.

**Bu dörtlük aşağıdaki kavramlardan hangisini açıklamaktadır?**

- A) Sahabe B) Ehl-i Kitap  
C) Ehl-i Beyt D) Ashab-ı Suffe

10. Sahabelerden bazıları, dini daha iyi yaşamak için geceleri namaz kılıp, gündüzleri oruç tutmaya, evlenmeye, dünya nimetlerinden uzak durmaya karar vermişlerdi. Bunu duyan Hz. Peygamber onları uyarış ve şöyle buyurmuştur: "Biliniz ki, ben Allah'a hepinizden daha saygılıyım. Bununla birlikte bazı günler oruç tutarım, bazı günler tutmam. Namaz da kılarım, uyku da uyurum, evlenirim de..."

**Bu olayda Hz. Peygamber aşağıdakilerden hangisini vurgulamıştır?**

- A) Merhametli olmayı  
B) Adaletli davranmayı  
C) Zorluklara sabretmeyi  
D) Aşırılıktan kaçınmayı

11. Aşağıdakilerden hangisi İslam'da ibadetlerle ilgili temel ilkeler arasında yer almaz?

- A) İsteklilik ve samimiyet  
B) Gösterişten uzak olmak  
C) Bireysellik ve gizlilik  
D) Kolaylık ve güç yetirebilirlik

12. I. Birliklilik şuuru oluşturur.  
II. İç huzurunu güçlendirir.  
III. Vicdan duygusunu geliştirir.  
IV. Kaynaşmayı teşvik eder.

**Numaralanmış ifadelerden hangileri ibadetlerin toplumsal yararlarından dandır?**

- A) I ve III. B) I ve IV.  
C) II ve III. D) II ve IV.

13. Mu'tezile'nin beş temel esasından olan "el-Va'd ve'l-Vaid"ın anlamı aşağıdakilerden hangisidir?

- A) Büyük günah işleyen ne mümin ne kâfirdir.  
B) İnsan kendi eylemlerinde tamamen özgürdür.  
C) İnsanlara iyiliği emredip kötülüklerden alıkoymak herkesin görevidir.  
D) İyilik ve kötülüğün mutlaka karşılığı vardır. İyiliğe ödül, kötülüğe ceza yaratıcı için zorunluluktur.

14. Aşağıdakilerden hangisi Müslümanlara ibadetlerde sağlanan kolaylıklardan biri değildir?

- A) Hasta ve yolcu olanların Ramazan oruçlarını erteleyebilmeleri  
B) Yolcuların dört rekâtlı farz namazlarını iki rekât kılabilmeleri  
C) Suyun bulunmadığı ortamlarda teyemmümlle abdest alınabilmesi  
D) Uzun yaz günlerinde Ramazan orucunun kış aylarına ertelenebilmesi

15. Bir amaca ulaşmak için gereken bütün tedbirleri aldıktan sonra işin sonucunu Allah'a bırakıp O'ndan yardım dilemektir.

**Bu tanım aşağıdaki kavramlardan hangisine aittir?**

- A) Tevekkül B) Şükür  
C) Kader D) Zikir

16. "... İnsan için ancak çalıştığı için karşılığı vardır." (Necm suresi, 39. ayet)

"Hiçbir kimse elinin emeği ile kazandığından daha hayırlı bir kazanç yememiştir..." (Hadis-i Şerif)

**Bu ayet ve hadis, kader ile ilgili aşağıdaki kavramlardan hangisi ile ilişkilendirilebilir?**

- A) Hayır ve şer  
B) Ecel ve ömür  
C) Emek ve rızık  
D) Hastalık ve sağlık

17. "Canlıların doğumundan ölümüne kadar geçen süreyi" ifade eden kavram aşağıdakilerden hangisidir?

- A) Kader B) Ömür  
C) Ecel D) Kaza

18. İnsanın erkek veya kadın oluşu, boyu, ırkı, anne-babası, nefes alışı, kalp atışı vb. olaylarda insan iradesinin herhangi bir etkisi bulunmamaktadır. Bu yüzden kişi, bunlardan sorumlu tutulmamıştır.

**Bu metinde verilen örnekler aşağıdaki kavramlardan hangisi ile ilişkilendirilebilir?**

- A) Külli irade B) Tevekkül  
C) Cüz-i irade D) Hayır ve şer

19. Sözlükte ölçü, miktar, tayin etme, planlama gibi anlamlara gelir. Terim olarak, Allah'ın başlangıçtan sonsuza kadar olmuş ve olacak tüm olayların yerini ve zamanını bilip takdir etmesine denir.

**Bu tanım aşağıdaki kavramlardan hangisine aittir?**

- A) Kaza B) Ecel  
C) Kader D) Tevekkül

20. Aşağıdakilerden hangisi kader ve kaza ile ilişkili kavramlardan biri değildir?

- A) Tebliğ B) Tevekkül  
C) Rızık D) Özgürlük

## (121) FELSEFE – 1

1. • Dogmatiktir.  
• Sistemattiktir.  
• İnanca dayanır.

**Verilen özellikler aşağıdaki bilgi türlerinden hangisine aittir?**

- A) Dini bilgiye B) Felsefi bilgiye  
C) Teknik bilgiye D) Gündelik bilgiye

2. "İnsanın bu evrendeki yeri nedir? Güzel nedir? Doğru nedir?" türünden sorularla insanların kendileri ve yaşamın anlamı üzerinde düşünmelerini sağlayan bir faaliyettir.

**Verilen bilgi aşağıdaki alanlardan hangisine aittir?**

- A) Din B) Bilim  
C) Sanat D) Felsefe

# 1. OTURUM

## 3. Aşağıdakilerden hangisi felsefenin işlevleri arasında yer almaz?

- A) Bilgiyi üretmenin önemli yollarından biridir.
- B) İnsanın varoluşunun anlamını sorgulamasını sağlar.
- C) Olay ve olgular arasındaki neden-sonuç ilişkisi ile ilgilenir.
- D) İnsana birçok konuda açık, seçik ve doğru düşünemeyi öğretir.

- 4. I. Fizik
- II. Kimya
- III. Psikoloji

## Yukarıdakilerden hangileri doğa bilimleri arasında yer alır?

- A) I ve II.
- B) I ve III.
- C) II ve III.
- D) I, II ve III.

## 5. Doğru bilginin akıl yoluyla elde edilebileceğini ileri süren felsefi akım aşağıdakilerden hangisidir?

- A) Analitik Felsefe
- B) Rasyonalizm
- C) Pragmatizm
- D) Empirizm

## 6. "Dil ile gerçeklik aynı yapıya sahip olduğu için dilin analizi gerçekliğin analizi demektir." görüşünü savunan düşünür aşağıdakilerden hangisidir?

- A) Demokritos
- B) I. Kant
- C) Wittgenstein
- D) Platon

## 7. Hegel' e göre aklın yasalarıyla varlığın yasaları bir ve aynıdır. Varlık ve düşünce arasındaki bu özdeşliği şöyle ifade etmiştir: "Akla uygun olan gerçek, gerçek olan ise akla uygundur."

## Buna göre aşağıdaki yargılardan hangisine ulaşılabilir?

- A) Düşünce ve varlık hakkında bilgi edinmenin çok çeşitli yolları vardır.
- B) Aklın yasaları varlığın yasalarından farklı özellikler gösterir.
- C) Duyular olmaksızın akıl yetersiz kalır.
- D) İnsan yalnızca akıl yoluyla varlığın bilgisine ulaşabilir.

## 8. Aşağıda verilen filozof ve felsefi yaklaşım eşleştirmelerinden hangisi doğrudur?

- A) Platon - Pozitivizm
- B) Sokrates - Rasyonalizm
- C) Farabi - Analitik Felsefe
- D) Wittgenstein - Pragmatizm

## 9. Aşağıdakilerden hangisi "Bilimselliğin ölçütü doğrulanabilirliktir." görüşünü savunan filozoflardan değildir?

- A) Kuhn
- B) Carnap
- C) Hempel
- D) Reichenbach

## 10. Aşağıdakilerden hangisi varlık felsefesinin temel kavramları arasında yer almaz?

- A) İde
- B) Töz
- C) Metafizik
- D) Episteme

## 11. Her şey tez, antitez ve sentez aşamalarından geçerek var olur. Doğa, kültür ve tarihin ilerleyişi bu üç aşamalı evrensel ilkeye göre gerçekleşir.

## Sözü edilen ilke aşağıdakilerden hangisidir?

- A) Geist
- B) Madde
- C) Diyalektik
- D) Düşünce

## 12. "Kavramlar deneyden gelen malzeme olmaksızın boş, deneyden gelen ham madde ise kavramlar olmaksızın kördür." Deney bu dünyaya ilişkin bilgilerimizin ham maddesini verir. Akıl ise bu ham maddeyi düzenler.

## Kant'ın bu düşüncesine göre aşağıdaki yargılardan hangisine ulaşamaz?

- A) Bilgimizin ham maddesini akıl oluşturur.
- B) Doğru bilgiye akıl ve deneyin birlikteliğiyle ulaşılır.
- C) Bütün bilgilerimiz deneyle başlar fakat yalnızca deneyin ürünü değildir.
- D) Bilginin kaynağı konusunda rasyonalizm ve empirizm bir aradadır.

## 13. Aşağıdakilerden hangisi bilimsel bilginin özelliklerinden değildir?

- A) Mantıksaldır.
- B) Kümülatiftir.
- C) Objektiftir.
- D) Olgusaldır.

## 14. I. Birikimsel olarak ilerler. II. Nesnel gerçekliği konu edinir. III. İnsan zihninden bağımsız olan gerçeklikleri araştırır.

## Yukarıdakilerden hangileri klasik bilim anlayışının özellikleri arasında yer alır?

- A) I ve II.
- B) I ve III.
- C) II ve III.
- D) I, II ve III.

## 15. "Hiçbir şey var değildir. Var olsa bile bilinemez. Bilinse bile bu bilgi başkalarına aktarılamaz."

## Gorgias'ın bu düşüncesi aşağıdaki akımlardan hangisine uygundur?

- A) Realizm
- B) Nihilizm
- C) Kritisizm
- D) Rasyonalizm

## 16. "Evrende değişmeyen hiçbir şey yoktur. Aynı ırmakta iki kez yıkanamazsınız. Çünkü akıp giden sular her seferinde onu başka bir ırmak yapar."

## Bu bilgiye göre aşağıdaki varlık anlayışlarından hangisi savunulabilir?

- A) Varlığın fenomen olduğu
- B) Varlığın madde olduğu
- C) Varlığın oluş olduğu
- D) Varlığın idea olduğu

## 17. Varlığın özüne ulaşabilmek o varlığın varoluşu ile ilgili her tür bilgi, düşünce ve önyargılar paranteze alınarak sağlanır.

## Bu görüşü savunan düşünür aşağıdakilerden hangisidir?

- A) Demokritos
- B) Descartes
- C) Husserl
- D) Hobbes

## 18. Thomas Kuhn'a göre her bilim dalı kendi tarihi içinde bazı aşamalardan geçerek ilerler.

## Aşağıdakilerden hangisi bu aşamalar arasında yer almaz?

- A) Olağan bilim dönemi
- B) Bilim öncesi dönem
- C) Bunalımlar
- D) Paradigma

## 19. "Kanun fit Tıp" adlı eseri Latinceye tercüme edilerek, batıda tıp fakültelelerinde ders kitabı olarak okutulmuştur.

## Sözü edilen İslam bilgini aşağıdakilerden hangisidir?

- A) İbn-i Sina
- B) Harezmi
- C) Biruni
- D) Farabi

## 20. Aşağıdakilerden hangisi varlık felsefesinin soruları arasında yer almaz?

- A) Varlık var mıdır?
- B) Bilginin değeri nedir?
- C) Gerçekten var olan nedir?
- D) Varlık hangi özelliklere sahiptir?

# 1. OTURUM

## (123) SEÇMELİ FELSEFE – 1

1. Akıl ve düşünmenin yanı sıra düş gücü ve sezgiye yer veren bilgi türü aşağıdakilerden hangisidir?

- A) Gündelik bilgi B) Bilimsel bilgi  
C) Sanat bilgisi D) Teknik bilgi

2. Aşağıdakilerden hangisi felsefi bilginin özelliklerindedir?

- A) Yalnızca hayal gücüne dayalıdır.  
B) Beceri ve yeteneğe bağlıdır.  
C) Deney ve gözleme dayalıdır.  
D) Akıl yürütmeyle ilerleyen bir bilgidir.

3. • Doğru bilginin ölçütü nedir?  
• Doğru bilgiye ulaşmak mümkün müdür?

Yukarıda verilen sorular felsefenin hangi alanına aittir?

- A) Varlık felsefesi  
B) Bilgi felsefesi  
C) Değer felsefesi  
D) Sanat felsefesi

4. Dünyadaki her şeyin Tanrı tarafından, insan varlığı için, insana hizmet edecek şekilde düzenlendiğini savunan yaklaşımdır.

Verilen tanım aşağıdaki görüşlerden hangisine aittir?

- A) Teolojik B) Mekanist  
C) Teleolojik D) Kozmolojik

5. Aşağıdakilerden hangisi felsefe ile din arasındaki benzer özelliklerdendir?

- A) Akıl yürütmeye dayalı olmaları  
B) Eleştiri ve kuşkuya kapalı olmaları  
C) Kaynağı bakımından insan ürünü olmaları  
D) Evreni ve insanı anlama ve açıklama çabası içinde olmaları

6. Aşağıdakilerden hangisi bilgi kuramının temel kavramlarından değildir?

- A) Suje B) Obje  
C) Varlık D) Doğruluk

7. Aşağıda verilen yaklaşım ve içerik eşleştirmelerinden hangisi doğrudur?

- A) Entüzyonizm – Fenomeni dile getiren bilgi doğru bilgidir.  
B) Fenomenoloji – Olguya dayanan bilgi doğru bilgidir.  
C) Pragmatizm – Yazar sağlayan bilgi doğru bilgidir.  
D) Pozitivizm – Sezgiye dayanan bilgi doğru bilgidir.

8. Doğru bilgiye ulaşmanın mümkün olduğunu savunan görüş aşağıdakilerden hangisidir?

- A) Dogmatizm B) Nihilizm  
C) Realizm D) Taoizm

9. I. Hipotez  
II. Metafizik  
III. Paradigma

Yukarıdakilerden hangileri bilim felsefesinin ele aldığı kavramlardandır?

- A) I ve II. B) I ve III.  
C) II ve III. D) I, II ve III.

10. Aşağıdakilerden hangisi varlığın madde olduğunu savunan düşünürler arasında yer almaz?

- A) Hegel B) Hobbes  
C) La Mettrie D) Demokritos

11. Marx'ın diyalektik anlayışını Hegel'in görüşünden ayıran nokta aşağıdakilerden hangisidir?

- A) Varlığın ide ile başladığı  
B) Geist'in sürekli bir oluş içinde olduğu  
C) Doğanın farklılaşmış mutlak ruh olduğu  
D) Maddî olanın düşünsel olanı meydana getirdiği

12. Varlığın hem madde hem de düşünce ürünü olduğunu savunan yaklaşım aşağıdakilerden hangisidir?

- A) Monizm B) Düalizm  
C) Kritisizm D) Empirizm

13. • Platon'a göre asıl gerçeklik olan idealar akıl yoluyla bilinebilir.  
• Hume'a göre her şey algı ile bilinebilir.  
Yukarıdaki ifadeler bilgi felsefesinin hangi sorusuna cevap niteliğindedir?

- A) Doğru bilgiye ulaşmak mümkün müdür?  
B) Doğru bilginin sınırları var mıdır?  
C) Doğru bilginin kaynağı nedir?  
D) Bilgimiz kesin midir?

14. Protagoras'ın "İnsan her şeyin ölçüsüdür." sözünden hareketle aşağıdakilerden hangisine ulaşılabılır?

- A) Genel geçer bilginin ölçütü akıldır.  
B) Doğru bilginin bir ölçütü olmalıdır.  
C) Doğru bilgi önyargılardan arınmış olmalıdır.  
D) Herkesin uzlaşabileceği genel geçer bir yargı yoktur.

15. Aşağıdakilerden hangisi Locke'a göre bilgi edinmenin yollarından biri değildir?

- A) Apriori bilgi B) Sezgisel bilgi  
C) Duyusal bilgi D) Tanıtlayıcı bilgi

16. Ona göre varlıkların bir "öz"ü bir de "form"u vardır. Form ideadır. İdealar varlıkların içinde bulunan "öz"lerdir.  
Verilen açıklama aşağıdaki filozoflardan hangisine aittir?

- A) Descartes B) Aristoteles  
C) Farabi D) Herakleitos

17. • Astronomi, matematik, coğrafya ve tarih alanındaki eserleriyle ün kazanmıştır.  
• "Kanun" adlı eserinde yerin eksen çevresinde döndüğünü ileri sürmüştür.

Özellikleri verilen bilim insanı aşağıdakilerden hangisidir?

- A) Harezmi B) Halife Memun  
C) Biruni D) Farabi

18. I. Olgusaldır.  
II. Objektiftir.  
III. Genelleyicidir.

Yukarıdakilerden hangileri bilimsel bilginin özelliklerindedir?

- A) I ve II. B) I ve III.  
C) II ve III. D) I, II ve III.

# 1. OTURUM

19. Bilimin tarihsel gelişimiyle ilgili aşağıdaki ifadelerden hangisi yanlıştır?

- A) İlk bilimsel çalışmalar eski Yunan'da başlamış ve bilim felsefeyle her zaman iç içe olmuştur.
- B) Rönesans dönemi aklın ve bireyin ön plana çıkmasıyla bilimsel gelişmelerin hız kazandığı bir dönem olmuştur.
- C) Avrupa'da karanlık Ortaçağ yaşanırken İslam kültür çevresinde önemli bilimsel gelişmeler kaydedilmiştir.
- D) Ortaçağ'da bilim ve felsefe kilisenin izin verdiği kadar gelişebilmiştir.

20. "Bilim köleler yaratmaktan başka bir işe yaramadı; savaş zamanında bizi zehirlemeye paramparça etmeye yarıyor; barış zamanında da yaşamımızı çekilmez, kararsız duruma sokuyor."

**A. Einstein'ın bu sözünden hareketle aşağıdakilerden hangisine ulaşılabilir?**

- A) Bilimsel ve teknolojik gelişmeler insanlığa yarar sağladığı kadar zarara da sebep olmaktadır.
- B) Bilimin kötüye kullanılması ve bu durumun yarattığı olumsuzluklar bilime mal edilmektedir.
- C) Suç işlerinde kullanıldığı zaman, bilim bir suç ortağı değil, o işin kurbanıdır.
- D) Bilgin, bilgin olarak değil herhangi bir insan kadar suçlu olabilir.

## (132) TARİH – 2

1. İslamiyet öncesi Arap Yarımadası'nda yaşayan kabileler arasında sık sık savaşlar yaşanmıştır.

**Bu durum, aşağıdakilerden hangisine neden olmuştur?**

- A) Bilimsel çalışmaların hızlanmasına
- B) Siyasi birliğin kurulamamasına
- C) Ticaretin önem kazanmasına
- D) Sözlü edebiyatın gelişmesine

2. Aşağıdakilerden hangisi, Mekke'den Medine'ye hicretin nedenlerinden biri değildir?

- A) Ticaret yollarına sahip olmak
- B) Medine'yi merkez haline getirmek
- C) İslamiyet'i daha rahat yaymak
- D) Müşriklerin baskı ve zulümlerinden kurtulmak

3. Aşağıdaki olaylardan hangisi, İslam dünyasını olumlu etkilemiştir?

- A) Moğol istilası
- B) Kerbela olayı
- C) Talas Savaşı
- D) Siffin Savaşı

4. Kudüs, Müslümanlar tarafından ilk kez hangi halife döneminde fethedilmiştir?

- A) Hz. Ebu Bekir
- B) Hz. Ömer
- C) Hz. Osman
- D) Hz. Ali

5. Aşağıdakilerden hangisi ilk Türk İslam Devletleri'nden biri değildir?

- A) Karahanlılar
- B) Gazneliler
- C) Büyük Selçuklu Devleti
- D) Abbasiler

6. İslam mimarisinde camilerde mihrap ve minareyi oluşturan devlet aşağıdakilerin hangisidir?

- A) Abbasiler
- B) Emeviler
- C) Beni Ahmer Devleti
- D) Endülüs Emevi Devleti

7. Abbasiler, Emeviler gibi ırkçı bir politika izlememiş, Arap olmayanlara da hoşgörülü davranmışlardır.

**Bu durum aşağıdakilerden hangisine ortam hazırlamıştır?**

- A) Halifeliğin saltanata dönüşmesine
- B) İslam dünyasının Hristiyanlardan etkilenmesine
- C) Görüş ayrılıklarının tamamen sona ermesine
- D) İslamiyetin Arap olmayanlar arasında yayılmasının hızlanmasına

8. Aşağıdakilerden hangisi İslam tarihinde Dört Halife Dönemi'ni sona erdiren olaydır?

- A) Hz. Ali'nin şehit edilmesi
- B) Abbasi Devleti'nin kurulması
- C) Deve Olayının yaşanması
- D) Mekke'ye hicret edilmesi

9. Aşağıdakilerden hangisi Hendek Savaşı'nın yakın sonuçlarından biri değildir?

- A) Mekkeliler savunmaya geçmiştir.
- B) İslamiyet'in yayılması hızlanmıştır.
- C) Müslümanlar Mekke'yi ele geçirmişlerdir.
- D) Müslümanlar taarruza geçmişlerdir.

10. Aşağıdaki olaylardan hangisi Hz. Ali Dönemi'nde yaşanan iç karışıklardan biri değildir?

- A) Deve Olayı
- B) Siffin Savaşı
- C) Hakem Olayı
- D) Moğol İstilasası

11. Aşağıdaki savaşlardan hangisi Büyük Selçuklu Devleti'nin kuruluşunda etkili olmuştur?

- A) Talas Savaşı
- B) Katvan Savaşı
- C) Dandanakan Savaşı
- D) Köseadağ Savaşı

12. • Afganistan'da kurulmuştur.  
• Adını başkentinden almıştır.  
• En parlak dönemi Sultan Mahmut dönemidir.

**Verilen bilgiler hangi Türk- İslam devletine aittir?**

- A) Selçuklular
- B) Akhunlar
- C) Gazneliler
- D) Karahanlılar

13. Aşağıdakilerden hangisi Türkiye Tarihi'nin başlangıcı olarak kabul edilir?

- A) Pasinler Savaşı
- B) Malazgirt Savaşı
- C) Talas Savaşı
- D) Köseadağ Savaşı

14. Selçuklularda sultan çocuklarının eğitiminden sorumlu kişiye hangi unvan verilmiştir?

- A) Atabey
- B) Şehzade
- C) Melik
- D) Emir

15. Abbasi Halifesini Şii Büveyhoğulları'nın baskısından kurtaran Selçuklu hükümdarı aşağıdakilerden hangisidir?

- A) Tuğrul Bey
- B) Alparslan
- C) Selçuk Bey
- D) Sencer

16. Aşağıdakilerden hangisi Avrupalıların Haçlı Seferleri sonucunda elde ettiği kazanımlardan biri değildir?

- A) Pusula
- B) Barut
- C) Kağıt
- D) Yazı

17. Aşağıdaki şehirlerden hangisinde Türkiye Selçuklu Devleti'ne ait mimari bir eser yoktur?

- A) Konya
- B) İstanbul
- C) Kayseri
- D) Sivas



# 1. OTURUM

18. Aşağıdakilerden hangisi, Haçlı Seferleri'nin siyasi sonuçlarından biridir?

- A) Skolastik düşüncenin zayıflaması
- B) Kiliseye olan güvenin sarsılması
- C) Feodalite rejiminin zayıflaması
- D) Akdeniz ticaretinin gelişmesi

19. Aşağıdaki gelişmelerden hangisi Türkiye Selçuklu Devleti döneminde Anadolu'daki ticareti olumsuz etkilemiştir?

- A) Haçlı Seferleri
- B) Sinop ve Antalya'nın fethi
- C) Kervansarayların yapılması
- D) Maden işlemecliliğinin gelişmesi

20. Türkiye Selçuklu Devleti'nde Ahilik teşkilatının faaliyetleri arasında aşağıdakilerden hangisi yoktur?

- A) Malların fiyatlarını belirlemek
- B) Ahlaki ve mesleki eğitim vermek
- C) Üretimi ihtiyaca göre ayarlamak
- D) Önemli devlet adamlarını atamak

## (136) TARİH – 6

1. İslamiyet öncesi Arap Yarımadası'nın durumu için aşağıdakilerden hangisi söylenemez?

- A) Kadınlar erkeklerle eşit haklara sahiptir.
- B) Kan davaları ve sınır anlaşmazlıkları yaygındır.
- C) Siyasi birliği sağlayabilen güçlü bir devlet yoktur.
- D) Araplar arasında putperestlik inancı yaygındır.

2. Kuran'ı Kerim'i ilk defa kitap haline getiren halife aşağıdakilerden hangisidir?

- A) Hz. Ali
- B) Hz. Ebu Bekir
- C) Hz. Ömer
- D) Hz. Osman

3. Aşağıdakilerden hangisi Türklerin İslamiyet'i kabul etmelerinde etkili olmamıştır?

- A) Emeviler'in Arap milliyetçiliğine dayalı politika izlemeleri
- B) İslamiyet'in tek Allah inancını benimsemesi
- C) İslamiyet'in gaza ve cihada önem vermesi
- D) İslamiyet'in farklı inançlara hoşgörülü olması

4. Müslümanlar ile Mekkeli müşrikler arasında yapılan ilk savaş aşağıdakilerden hangisidir?

- A) Uhut
- B) Talas
- C) Hendek
- D) Bedir

5. Orta Asya'da kurulan ilk Müslüman Türk devleti, aşağıdakilerden hangisidir?

- A) Gazneliler
- B) Tolunoğulları
- C) Karahanlılar
- D) Hunlar

6. Kaşgarlı Mahmut'un Türkçenin Arapça kadar zengin bir dil olduğunu göstermek için yazdığı eser aşağıdakilerden hangisidir?

- A) Kutadgu Bilig
- B) Divan-ı Hikmet
- C) Divan-ı Lügati't -Türk
- D) İhsa'ül-Ulum

7. Gazneli Mahmut 400'e yakın şair ve bilim insanını sarayında toplamış, maddi ve manevi her türlü imkânı sağlamıştır.

**Buna göre Gazneli Mahmut'un devlet adamlığı ile ilgili aşağıdakilerden hangisi söylenebilir?**

- A) Zevk ve eğlenceye düşkün olduğu
- B) Gösterişli bir yaşam sürdüğü
- C) Halifeliği ele geçirmek için çaba gösterdiği
- D) Bilime ve sanatçılara önem verdiği

8. Aşağıdakilerden hangisi Malazgirt Savaşı'nın sonuçlarından değildir?

- A) Haçlı Seferlerine zemin hazırlamıştır.
- B) Türklerin batıya ilerleyişi hızlanmıştır.
- C) Bizans Devleti'ne son verilmiştir.
- D) Bizans İmparatoru Romen Diyojen esir alınmıştır.

9. 1040 yılında toplanan kurultay kararlarına göre, Tuğrul Bey devletin başına geçti. Tuğrul Bey yönetimi ele aldıktan sonra, adına hutbe okutup para bastırdı.

**Tuğrul Bey'in kendi adına para bastırıp, hutbe okutmasının anlamı aşağıdakilerden hangisidir?**

- A) Hükümdar olduğunu ilan etmek
- B) Ülkesinin zenginliğini göstermek
- C) Halkına moral vermek
- D) Halifeliğin gücünden faydalanmak

10. Büyük Selçuklu Devleti'nde görülen;

- I. Abbasi halifesini düşmanlarına karşı koruması
- II. Ülke topraklarının hanedanın ortak malı sayılması
- III. İslamiyet'in yayılması için çalışılması

**gelişmelerinden hangileri, Türklerin İslam dünyasındaki saygınlığını artırmıştır?**

- A) Yalnız I
- B) Yalnız II
- C) I ve III.
- D) II ve III.

11. Büyük Selçuklu Devleti'nde; hastaların ücretsiz tedavi olacakları hastaneler, yolcuların ücretsiz konaklayacağı kervansaraylar, yoksullar için aşevleri yaptırılması aşağıdakilerden hangisinin göstergesidir?

- A) Hukuk sistemlerinin oluştuğunun
- B) Sosyal devlet anlayışının benimsendiğinin
- C) Denizlerde üstünlük sağlandığının
- D) Merkezîyetçi yönetime sahip olduklarının

12. Türk-İslam Devletleri'nde Müslüman olmayan vatandaşlardan, askerlik yapmadıkları için alınan vergi aşağıdakilerden hangisidir?

- A) Öşür
- B) Gümrük
- C) Haraç
- D) Cizye

13. Tıp sahasında en büyük eseri El-Kanun fit-Tıbb adlı kitabı bulunan, Avrupa'da "Avicenna" diye tanınan bilim adamı aşağıdakilerden hangisidir?

- A) Gazali
- B) İbn-i Sina
- C) El-Biruni
- D) Farabi

14. 909-1171 yılları arasında Kuzey Afrika, Mısır ve Suriye'de hüküm süren devlet aşağıdakilerden hangisidir?

- A) Karahanlılar
- B) Fatımiler
- C) Memlukler
- D) Abbasiler

15. Aşağıdakilerden hangisi Moğol İmparatorluğu'nun parçalanmasıyla ortaya çıkan devletlerden değildir?

- A) Çağatay Hanlığı
- B) Altın Orda
- C) Emeviler
- D) Kubilay Hanlığı

## 1. OTURUM

### (151) COĞRAFYA – 1

16. Dört Halife Dönemi ile Emevi Devleti karşılaştırıldığında yönetim açısından oluşan farklılık aşağıdakilerden hangisidir?

- A) Halifeliğin saltanata dönüşmesi
- B) Hukukta dini kuralların geçerli olması
- C) Halife seçiminde kabilelerin etkili olması
- D) İslamı yaymak için fetihler yapılması

17. Büyük Selçuklu Devleti'nde ülke topraklarının hanedanın ortak malı sayılması ile birlikte, bu topraklar etkin bir şekilde kullanılmak üzere geçici olarak halka dağıtılmıştır.

**Bu uygulamanın amacı aşağıdakilerden hangisidir?**

- A) Uluslararası ticareti geliştirmek
- B) Ülkede birlik ve beraberliği sağlamak
- C) Taht kavgalarının önüne geçmek
- D) Üretimin artmasını sağlamak

18. Babür Devleti'nde Şah Cihan'ın eşi için yaptırdığı ve dünyanın en güzel mimari anıtlarından biri sayılan eser aşağıdakilerden hangisidir?

- A) Olcaytu Türbesi
- B) Taç Mahal
- C) Kayıtbay Külliyesi
- D) Daru'l Hikme

19. Moğollar, Şamanizm, Budizm, Hristiyanlık, Müslümanlık gibi farklı inançlara sahiptirler.

**Buna göre, aşağıdakilerden hangisine ulaşılabilir?**

- A) Farklı kültürlerden etkilenmişlerdir.
- B) Ticarete ve sanata önem vermişlerdir.
- C) Devlet örgütlenmesini tamamlamışlardır.
- D) Çeşitli inançlara baskı uygulamışlardır.

20. Aşağıdakilerden hangisi İlk Müslüman Türk Devletlerinde eğitime ve bilime önem verildiğinin göstergesidir?

- A) Kervansaray yaptırmaları
- B) Yol ve köprü yaptırmaları
- C) Han ve hamamlar yaptırmaları
- D) Kütüphaneler ve medreseler açmaları

1. Geceleri aşırı ısınmayı, gündüzleri ise güneşin yakıcı sıcaklığını önleyerek sıcaklığın yeryüzüne dengeli dağılmasını sağlayan doğal ortam aşağıdakilerden hangisidir?

- A) Atmosfer
- B) Litosfer
- C) Hidrosfer
- D) Biyosfer

2. Haritalardan yararlanarak aşağıdakilerden hangisini söyleyemeyiz?

- A) Bir akarsuyun akım miktarını
- B) İki merkez arasındaki uzaklığı
- C) Bir noktanın Ekvatora olan uzaklığını
- D) İki yerleşmenin birbirine göre konumunu

3. Aşağıdaki haritalardan hangisi özel harita tanımlamasına uygundur?

- A) Fiziki
- B) Toprak
- C) Siyasi
- D) Beşeri

4. Koordinat sisteminin temel kullanım amacı nedir?

- A) Gerçeğe uygun haritalar hazırlamak
- B) İklimlerin dağılım alanlarını belirlemek
- C) Dünya üzerinde bir yerin konumunu belirlemek
- D) İnsan faaliyetlerine elverişli bölgeleri keşfetmek

5.

Harita Adı	Ölçeği
X Haritası	1:800.000
Y Haritası	1:2.000.000

**Tabloda verilen bilgilerle hazırlanan Türkiye fiziki haritaları karşılaştırıldığında aşağıdaki yargılardan hangisine ulaşılabilir?**

- A) X haritasında Ankara İzmir arası daha kısadır.
- B) Y haritası daha fazla ayrıntı içerir.
- C) X haritası için daha büyük kâğıt kullanılmıştır.
- D) Y haritasında kıyı ve sınır çizgileri daha ayrıntılıdır.

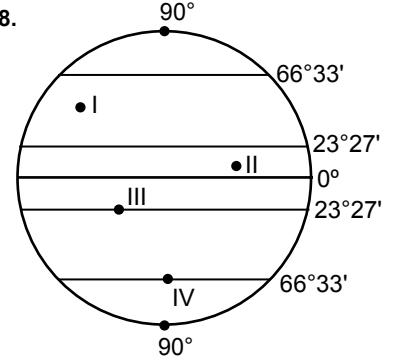
6. Yeryüzü şekillerini gösterme yöntemlerinden biri olan renklendirme yönteminde renkler aşağıdakilerden hangisini göstermek için kullanılır?

- A) Bitki örtüsünü
- B) Yer şekillerini
- C) Sıcaklık değerlerini
- D) Yükselti basamaklarını

7. 21 Haziran ve sonrasında aşağıdaki durumlardan hangisi yaşanır?

- A) Güney Yarım Küre'de en kısa gündüz yaşanır.
- B) Güneş ışınları Oğlak Dönencesi'ne dik gelir.
- C) Kuzey Yarım Küre'de gündüz süreleri uzamaya başlar.
- D) Aydınlanma çemberi, kutup noktalarından geçer.

8.



**21 Aralıkta görselde numaralandırılarak verilen yerlerin hangisine güneş ışınları dik açıyla gelir?**

- A) I
- B) II
- C) III
- D) IV

9. Atmosferdeki karbondioksit gazıyla ilgili olarak aşağıda verilen bilgilerden hangisi doğrudur?

- A) Sera etkisinin oluşmasını sağlar.
- B) Hava olaylarının oluşmasını sağlar.
- C) Atmosferde miktarı ve oranı sabit kalır.
- D) Güneş ışınlarını yansıtma özelliğine sahiptir.

10. Güneşten gelen zararlı ultraviyole ışınlarını tutan gaz aşağıdakilerden hangisidir?

- A) Oksijen
- B) Ozon
- C) Metan
- D) Azot

11. Dünya'nın şekli aşağıdakilerin hangisinde yeryüzünde sıcaklığın dağılışını etkileyen temel faktördür?

- A) Gece hava sıcaklığının gündüz saatlerinden düşük olması
- B) Türkiye'de sıcaklık ortalamalarının Norveç'ten yüksek olması
- C) Buzul Dağı'nın kuzeyindeki buzulların güneydekilerden uzun olması
- D) Türkiye'de kış mevsimi yaşanırken Arjantin'de yaz yaşanması

# 1. OTURUM

12. Türkiye'deki sıcaklık dağılışında aşağıdakilerden hangisinin etkisi daha azdır?

- A) Bakı şartlarının
- B) Denize uzaklığın
- C) Okyanus akıntılarının
- D) Yükselti değerlerinin

13. I. Bitki çeşitliliği  
II. Jeolojik yapı  
III. Merkezler arası basınç farkı  
IV. Basınç merkezleri arasındaki mesafe

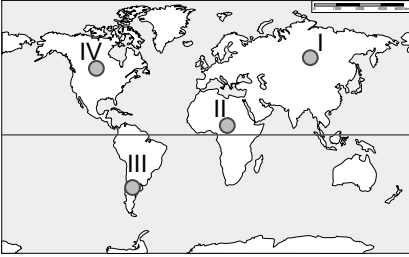
Verilenlerden hangileri bir yerdeki rüzgâr hızını belirleyen temel unsurlardır?

- A) Yalnız III
- B) I ve II.
- C) II ve IV.
- D) III ve IV.

14. Aşağıdakilerden hangisi Akdeniz çevresinde kuzeyden esen soğuk ve kuru rüzgârdır?

- A) Fön
- B) Bora
- C) Hamsin
- D) Sirokko

15.



Haritada numaralandırılarak verilen yerlerin hangisinde yıllık ve günlük sıcaklık farkı en azdır?

- A) I
- B) II
- C) III
- D) IV

16. Aşağıdakilerden hangisi Akdeniz ikliminin genel özelliklerinden biridir?

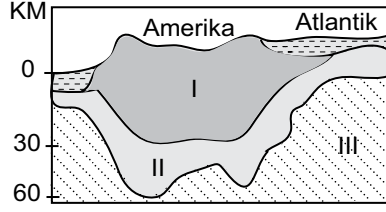
- A) Kış ayları kurak geçer.
- B) Bozkır karakteristik bitki örtüsüdür.
- C) En soğuk ay ortalaması 0°C civarındadır.
- D) Kar yağışı ve don olayı nadiren yaşanır.

17. Tortul kayaların levha tektoniği ile kıvrılarak yükselmesi sonucunda kıvrım dağları oluşur.

Bu kıvrımların kubbemsi kısımlarına ne ad verilir?

- A) Horst
- B) Graben
- C) Senklinal
- D) Antiklinal

18.



Yerkabuğunun iç yapısını gösteren kesitte numaralandırılarak verilen katmanların adları hangi seçenekte doğru olarak verilmiştir?

- | I        | II    | III   |
|----------|-------|-------|
| A) Manto | Sial  | Sima  |
| B) Sima  | Manto | Sial  |
| C) Sial  | Sima  | Manto |
| D) Sial  | Manto | Sima  |

19. Aşağıdakilerden hangisi ziraat ve hayvancılık için diğerlerinden daha tehlikeli ve uzun süreli bir doğal afettir?

- A) Erozyon
- B) Heyelan
- C) Deprem
- D) Orman yangını

20. Fiyortlu kıyı tipinin oluşmasında aşağıdaki dış güçlerden hangisi başlıca etkindir?

- A) Dalga
- B) Akarsu
- C) Güneş
- D) Buzul

## (155) COĞRAFYA – 5

1. Aşağıdakilerden hangisi Dünya'nın en zengin doğal yaşam alanıdır?

- A) Çöller
- B) Çayırılar
- C) Tundralar
- D) Yağmur ormanları

2. Aşağıdakilerden hangisi ekosistemi oluşturan fiziksel etmenlerden değildir?

- A) Yağış
- B) Rüzgâr
- C) Bitkiler
- D) Sıcaklık

3. Eğitim faaliyetleri ile ön plana çıkıp etki alanını genişleten, farklı ülkelerden öğrencilerin yüksek düzeyde eğitim almak için geldiği şehir aşağıdakilerden hangisidir?

- A) Essen
- B) Lizbon
- C) Oxford
- D) Marsilya

4. Aşağıdaki ülkelerden hangisi nüfus artış hızını yükseltmeye yönelik politika uygulamaktadır?

- A) Fransa
- B) Hindistan
- C) Venezuela
- D) Endonezya

5. Aşağıdakilerden hangisi ilk şehir yerleşmelerinin ortaya çıktığı alanlardan biri değildir?

- A) Nil Vadisi
- B) Akdeniz Havzası
- C) Asya'nın güneydoğusu
- D) Amerika'nın kuzeybatısı

6. Aşağıdakilerden hangisinde ekonomik faaliyetler üzerinde doğal unsurların etkisinden söz edilmiştir?

- A) İhtiyaç fazlası ürünlerin pazarlara götürülmesi
- B) Bazı yıllarda kuraklık nedeni ile tarımsal verimin düşmesi
- C) Pazarda talep gören ürünlerin üretiminin artması
- D) Tarım ürünlerinden elde edilen gelirle modern araçlar alınması

7. Aşağıdakilerden hangisi dağıtım etkileyen beşeri faktörlerden biri değildir?

- A) Moda
- B) Ulaşım
- C) İletişim
- D) Teknoloji

8. Aşağıdakilerden hangisi belirli şartlar dahilinde kendini yenileyebilen doğal kaynaklardandır?

- A) Dalga
- B) Petrol
- C) Orman
- D) Rüzgâr

9. Tüketime üretim doğrudan etkilemesine aşağıdakilerden hangisi örnek verilemez?

- A) Kahvenin anavatanı dışında yetiştirilmeye başlanması
- B) Domuz gribi nedeni ile hijyen ürünlerine talebin artması
- C) Kuş gribinden dolayı kümes hayvanlarına talebin azalması
- D) Gemilerde balıkları muhafaza edecek soğutucuların bulunması

10. Zengin doğal kaynaklara sahip bazı ülkeler teknik bilgi ve sermaye bakımından yetersiz oldukları için yeterince gelişmemişlerdir.

Aşağıdaki ülkelerden hangisi bu duruma örnek verilebilir?


- A) Rusya
- B) Nijerya
- C) Japonya
- D) Moğolistan

# 1. OTURUM

11. Anadolu'nun tarih boyunca medeniyetlere ev sahipliği yapmasına aşağıdakilerden hangisi en az etki yapmıştır?

- A) Su kaynakları
- B) İklim koşulları
- C) Verimli toprakları
- D) Yeraltı zenginlikleri

12.



Yukarıdaki görselde arazi eğim değerlerine göre ayrılmıştır.

**Buna göre bu arazide hangi eğim değerinde, toprak örtüsü incedir ve erozyon daha etkilidir?**

- A) %2
- B) %5
- C) %10
- D) %20

13. Ülkemizde arazilerin büyük kısmının dağlık ve engebeli olması aşağıdaki ekonomik faaliyetlerden hangisini olumlu etkiler?

- A) Tarım
- B) Hayvancılık
- C) Ulaşım
- D) Sanayi

14. Çiftçilikle uğraşan bir ziraat mühendisiyim. Tarım yapmak için Türkiye'nin en elverişli yerlerinden birinde yaşıyorum. Yaşadığım yerde ılıman iklim koşulları hakim olduğu için yılda birden fazla ürün alıyoruz. Buğdayı hasat ettikten sonra yerine mısır, soya fasulyesi gibi ürünler ekim yapıyoruz. Hayvancılık alanında ise kıl keçisi başta olmak üzere küçükbaş hayvan yetiştiriyoruz.

**Yukarıdaki metinde sözü edilen çiftçi aşağıdaki tarım alanlarından hangisinde yaşayabilir?**

- A) Çukurova
- B) Yüksekova
- C) Erzurum Ovası
- D) Konya Ovası

15.



Yukarıdaki Türkiye haritasında numaralandırılan yerlerden hangisi ayçiçeğinin en fazla yetiştirildiği alandır?

- A) I
- B) II
- C) III
- D) IV

16. İpek böcekçiliğinin yapıldığı yerlerde aşağıdakilerden hangisi yaygındır?

- A) Kızılağaç
- B) Dut ağacı
- C) Akçaağaç
- D) Meşe ağacı

17. Ülkemizde Artvin (Murgul), Kastamonu (Küre), Elazığ (Maden), Rize (Çayeli)'den çıkarılan, işlenmesi kolay olan, iletkenliği fazla olduğu için elektrik-elektronik sektörünün vazgeçilmezi olan maden aşağıdakilerden hangisidir?

- A) Bor
- B) Bakır
- C) Barit
- D) Boksit

18. En güvenilir ve en temiz enerji kaynağı aşağıdakilerden hangisidir?

- A) Su gücü
- B) Doğal gaz
- C) Nükleer enerji
- D) Biyomas enerjisi

19. Enerji kaynaklarından kömürün uzak yerlere taşınması maliyeti arttırdığından kömürle çalışan sanayi işletmeleri genellikle kaynağa yakın yerlere kurulmaktadır.

**Aşağıdakilerden hangisi bu duruma örnek verilemez?**

- A) Soma – Termik santral
- B) Elbistan – Termik santral
- C) Ereğli – Demir-çelik fabrikası
- D) İskenderun – Demir-çelik fabrikası

20. Aşağıdakilerden hangisi heyelanın en çok yaşandığı yerlerden biridir?

- A) Niğde
- B) Muğla
- C) Trabzon
- D) Konya

## (157) COĞRAFYA – 7

1. Herhangi bir doğa olayının ekstem olarak adlandırılabilmesi için o hava olayının - - - - gerekir.

**Yukarıda boş bırakılan yere aşağıdakilerden hangisinin gelmesi gerekir?**

- A) Normal seyrinde ve sıklıkta yaşanması
- B) Ara ara ve aşırı olmayan şiddette yaşanması
- C) Aşırı ve sıra dışı ölçüde gerçekleşmesi
- D) İnsan hayatını tehlikeye sokmayacak şiddette yaşanması

2. Aşağıdakilerden hangisi sel ve taşkınlar sırasında ve sonrasında yaşanan durumlardan biri değildir?

- A) Yeraltı su seviyesinin azalması
- B) Yol, köprü ve binaların yıkılması
- C) Kirli suların temiz sulara karışması
- D) Tarım alanlarının sular altında kalması

3. İnsanların doğaya müdahalesi aşağıdaki olayların hangisiyle en üst seviyeye ulaşmıştır?

- A) Madenlerin işlenmesi
- B) Yazının icat edilmesi
- C) Tarımın başlaması
- D) Sanayi devrimi

4. Aşağıdakilerden hangisi ilk medeniyetlerin kurulduğu yerlerin ortak özelliğidir?

- A) Gür ormanların bulunması
- B) Av hayvanlarının bol olması
- C) Su kaynaklarına yakın olması
- D) Maden bakımından zengin olması

5. Mısır medeniyetinin çevresine göre gelişmiş, güçlü yapıda bir uygarlık olmasında aşağıdakilerden hangisi etkili olmuştur?

- A) Nil Nehrinin varlığı
- B) Çöllerle kaplı olması
- C) Madenlerin varlığı
- D) Ormanların varlığı

6. Sanayisi büyüyen bir şehirde buna bağlı olarak aşağıdakilerden hangisinin en az düzeyde gelişmesi beklenir?

- A) Ulaşım
- B) Turizm
- C) Ticaret
- D) Eğitim

# 1. OTURUM

7. Avrupa ve Amerika'da 150-200 yılda tamamlanan sanayileşme ülkemizde çok daha kısa zamanda gerçekleşmiş bunun sonunda da özellikle kentlerde önemli sorunlar ortaya çıkmıştır.

**Aşağıdakilerden hangisi bu sürecin kentlerdeki sonuçlarından değildir?**

- A) Kentlerin hızlı göç alması
- B) Altyapı hizmetlerinin aksaması
- C) Arazi değerlerinin hızlı değişmesi
- D) Nadasa bırakılan arazilerin artması

8. Dünya nüfusunun geleceği ile ilgili aşağıda varılan yargılardan hangisi doğrudur?

- A) Yaşlı nüfus oranı artacaktır.
- B) Kentsel nüfus oranı azalacaktır.
- C) Tarımda çalışan sayısı artacaktır.
- D) Ailelerde çocuk sayısı artacaktır.

9. I. İş alanları artıp çeşitlenecek  
II. Uluslararası pazarların önemi azalacak  
III. Tarımsal üretim artarak devam edecek  
IV. Daha kısa sürede daha kaliteli ve çok üretim yapılacaktır

**Dünya ekonomisinin geleceğinde karşılaşılabilecek durumlardan bazıları hangi seçenekte bir arada verilmiştir?**

- A) Yalnız I
- B) I, II ve IV.
- C) I, III ve IV.
- D) II, III ve IV.

10. Aşağıdakilerden hangisi bölgeler oluşturulurken göz önüne alınan doğal (fiziki) etmenlerden biridir?

- A) Su kaynakları
- B) Nüfus yoğunluğu
- C) Sanayi kuruluşları
- D) Turizm faaliyetleri

11. Ulaşım ağının sıklığı, kalitesi ile ülkenin gelişmişlik derecesi arasında bağlantı olduğunu iddia eden biri bunu aşağıdakilerin hangisine dayandırır?

- A) Dağlık ülkelerde yol ağının seyrek olması
- B) Kalabalık ülkelerde daha sık yol ağının olması
- C) Yol yapımının masraflı olması ve teknolojik bilgi istemesi
- D) Kara yolu, demir yolu, liman ve havaalanlarının bakım istemesi

12. Türkiye'de kara ve demiryollarının çoğunlukla batı-doğu istikametinde uzanmasının temel sebebi aşağıdakilerden hangisidir?

- A) Bitki örtüsü
- B) İklim özellikleri
- C) Nüfus yoğunluğu
- D) Dağların uzanışı

13. Aşağıdaki şehirlerimizden hangisinin limanı ekonomik olarak diğerleri kadar önemli değildir?

- A) Sinop
- B) İzmit
- C) İzmir
- D) Samsun

14. Türkiye, rekabetin ve zamanın önem kazandığı günümüzde turizm sektörünün çok hızlı geliştiği ülkelerin başında gelmekte, Dünya'nın çok uzak noktalarından turist ağırlamakta ve döviz kazanmaktadır.

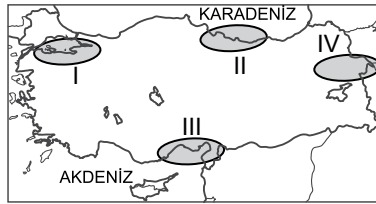
**Buna göre ülkemizde hangi ulaşım sistemi daha çok geliştirilmelidir?**

- A) Kara yolu
- B) Deniz yolu
- C) Demir yolu
- D) Hava yolu

15. Aşağıdakilerden hangisi İstanbul'da ulaşım ağının gelişmiş olduğuna kanıt olamaz?

- A) İniş kalkış yapan uçak sayısı
- B) Şehrin toplam kıyı uzunluğu
- C) Şehir içi taşınan yolcu sayısı
- D) İhracatında gemilerin taşıma payı

16.



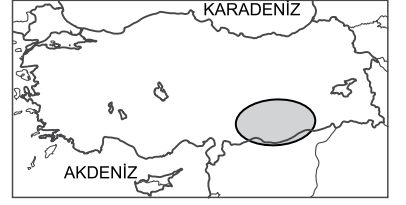
**Haritada numaralandırılarak verilen yerlerin hangisinde iç ve dış ticaret daha çok gelişmiştir?**

- A) I
- B) II
- C) III
- D) IV

17. Bir yerde ticaretin gelişmesi için aşağıdakilerden hangisinin de öncelikli olarak gerçekleşmesi gerekir?

- A) Nüfusun artması
- B) Üretimin artması
- C) Enerjinin ucuzlaması
- D) Madenlerin keşfedilmesi

18.



**Yukarıdaki haritada taranarak verilen yerde hangi turizm zenginliğimiz bulunmaktadır?**

- A) Aspendos
- B) Palandöken dağları
- C) Nemrut dağı heykelleri
- D) Pamukkale travertenleri

19. Aşağıdakilerden hangisi Türkiye'nin geleceğe yönelik turizm stratejilerinden biridir?

- A) Turizm gelirlerini artırırken gelecek turist sayısını azaltmak
- B) Kültürel ve doğal zenginliklere sahip şehirlerimizi markalaştırmak
- C) Deniz turizmini alternatif turizm türlerinden daha fazla desteklemek
- D) Ulusal tanıtım ve pazarlama giderlerini alt düzeye çekmek

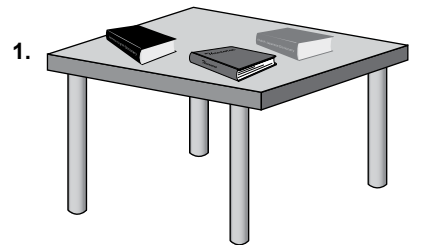
20. Avrupa'dan tiptaki son gelişmeleri paylaşmak için İstanbul'a gelen bilim insanları, 5 günlük konferansın ardından Batı Karadeniz dağlarında iki gün süren dağ tırmanışı ve yürüyüşü yaptıktan sonra Yalova kaplıcalarından yaralanıp ülkelerine döndüler.

**Buna göre bu bilim insanları hangi turizm türünü yapmamışlardır?**

- A) Yayla
- B) Deniz
- C) Termal
- D) Kongre

**(181) İNGİLİZCE – 1**

**1 - 20. sorularda boş bırakılan yere uygun gelen sözcük ya da ifadeyi işaretleyiniz.**



1.

--- three books on the table.

- A) There is
- B) There are
- C) There isn't
- D) There aren't

# 1. OTURUM

2. **Matt** : ----?

**John** : No, there isn't.

- A) Is there any sugar in the kitchen
- B) Are there any cakes in the fridge
- C) Have you got any milk in the fridge
- D) Do you have some bread in the kitchen

3. **I give money to my classmate because he ---- gives it back.**

- A) rarely                      B) never
- C) always                     D) seldom

4. **Josh** : Excuse me, ---- is the city museum?


**Adam** : Go straight ahead and then turn right. It is on your right.

- A) what                         B) when
- C) whose                      D) where

5. ---- a hospital near here?

- A) There are                 B) Are there
- C) There is                   D) Is there

6.



The cat is ---- the sofa.

- A) in                            B) on
- C) under                      D) next to

7. **I am making a cake and my brother is watching ----.**

- A) I                              B) my
- C) mine                        D) me

8. **There is ---- dog in the garden.**

- A) a                              B) an
- C) any                         D) lots of

9. ---- plays computer games in the evenings.

- A) You                         B) We
- C) He                            D) I

10. **Linda** : ---- do you go to school?

**Mary** : By school bus.

- A) Why                         B) How
- C) When                       D) Where

11. **Jack** : How often do you visit your grandparents?

**Tom** : ----.

- A) Next weekend
- B) Twice a month
- C) Tomorrow
- D) Last week

12. **William** : It is very hot here.

**Johnson** : Please, ---- the windows.

- A) turn out                    B) start up
- C) close                        D) open

13. **Martin** : ---- are my glasses?

**Timothy** : They are on the table.

- A) When                        B) What
- C) Where                       D) Who

14. **My friends are camping now. ---- are in Alanya.**

- A) He                            B) It
- C) She                          D) They

15. **My father ---- to a sports club twice a week.**

- A) goes                         B) does
- C) has                            D) visits

16. **My brother and I went to England together ---- month.**

- A) next                         B) last
- C) now                         D) ago

17. **Gilbert** : Where ----?

**Fatih** : I am from Turkey.

- A) do you like visiting
- B) are you from
- C) will you go
- D) is Turkey

18. **Asli** : What nationality is he?

**Molly** : ----.

- A) He is French
- B) He has a car
- C) He was student
- D) He will be twenty

19. **Maria** : ----?

**Tony** : Here it is.

- A) Can you sing a song
- B) Can you speak Italian
- C) Can you pass me the water
- D) Can you clean the living room

20. **Carl** : ----?

**Ted** : Two.

- A) How many tomatoes do you need
- B) How much money do you want
- C) How can I go to the bank
- D) How do you do

## (181) ALMANCA – 1

1 - 20. sorularda boş bırakılan yere uygun gelen kelime ya da ifadeyi işaretleyiniz.

1. **Am Wochenende ---- wir ins Theater ----.**

- A) kann / geht
- B) darf / gehe
- C) können / gehen
- D) haben / gegangen

2. ---- der Zug kommt, kann ich nach Ankara fahren.

- A) Ob                            B) Wenn
- C) Warum                    D) Um

3. **Ali fragt, ---- ich den Lehrer kenne.**

- A) womit                        B) zu wem
- C) wie spät                     D) seit wann

4. **Ich ---- Markus und sie ---- Nihal.**

- A) bin / ist                      B) bist / ist
- C) ist / bin                      D) ist / bist

5. **Ich und mein---- Schwester wohnen in Trabzon.**

- A) -er    B) -e    C) -es    D) -

6. **A: Entschuldigung, ---- kommt der Bus?**

**B: Um 10 Uhr.**

- A) wie                            B) womit
- C) warum                      D) wann

# 1. OTURUM

7.



Das Flugzeug fliegt ---- den Wolken.

- A) unter                      B) neben  
C) über                        D) zwischen

8. ---- wasche ich meine Hände.---- esse ich mein Essen.

- A) Zuerst / Dann  
B) Danach / Dann  
C) Bevor / Zuerst  
D) Dann / Danach

9.



A: Wo ist der Hund?  
B: ---- dem Teppich.

- A) Über                      B) Auf  
C) Im                         D) Unter

10. Nach der Zahl siebenundzwanzig kommt ----.

- A) sechsundzwanzig  
B) neunundzwanzig  
C) achtundzwanzig  
D) dreißig

11. A: Kannst du ---- bei mein----- Hausaufgaben helfen.  
B: Ja, natürlich.

- A) mich / -e                B) dich / -es  
C) dir / -en                D) mir / -en

12. Acht Wochen sind ---- Monate.

- A) eins                        B) zwei  
C) drei                        D) vier

13. A: ---- hast du dieses Buchgekauft?  
B: Im Internet.

- A) Wo                        B) Was  
C) Wer                        D) Wie

14. A: ---- ihr Tennis gespielt?  
B: Nein, wir ---- Volleyball gespielt.

- A) Seid / sind              B) Hast / habe  
C) Habt / haben          D) Hat / sind

15.



A: Wie spät ist es?  
B: Es ist ----.

- A) zwanzig nach sieben  
B) Viertel vor sieben  
C) Viertel nach acht  
D) zwanzig vor acht

16. A: ---- ist die Prüfung?  
B: ---- Mittwoch.

- A) Wann / Am              B) Wo / Um  
C) Wie / Vor                D) Was / Im

17. A: ---- isst du Spaghetti?  
B: Mit der Gabel.

- A) Was                        B) Wie  
C) Wo                        D) Wann

18. A: ---- du auch Türkisch?  
B: Ja.

- A) Lerne                      B) Lernt  
C) Lernst                     D) Lernen

19. A: Was machst du?  
B: ----.

- A) Ich koche  
B) Er macht Sport  
C) Sie liest ein Buch  
D) Du schreibst einen Brief

20. A: ---- du Auto fahren?  
B: Ja.

- A) Kann                      B) Können  
C) Könnt                     D) Kannst

## (181) FRANZISCA – 1

1 - 16. sorularda boş bırakılan yere uygun gelen sözcük ya da ifadeyi işaretleyiniz.

1. ---- aime le thé.

- A) Elle                        B) Ils  
C) Nous                      D) Vous

2. ---- as fini tes devoirs ?

- A) Elles                      B) Elle  
C) Tu                         D) Vous

3. Leyla ---- la nuit devant la télévision.

- A) est passé                B) est passée  
C) a passé                 D) as passé

4. Samedi dernier, nous ---- dîné très tard.

- A) avons                     B) sommes  
C) êtes                        D) avez

5. Arthur : Tu vois le petit chat ?  
Nicole : Oui, je ---- vois.

- A) la                         B) les  
C) le                         D) te

6. Paul : Tu attends quelqu'un ?  
Jean : Non, je n'attends ----.

- A) rien                        B) personne  
C) aucun                     D) jamais

7. Il a neigé ---- la semaine à Ağrı.

- A) toute                      B) personne  
C) tout                        D) chaque

8. Elles ont ---- professeurs que l'an dernier.

- A) l'autre                    B) le même  
C) les mêmes              D) certaine

9. Anne : M. Dupont est divorcé ?  
Janine : Oui, il est ----.

- A) jeune                     B) mariée  
C) fiancée                 D) divorcé

# 1. OTURUM

10. S'il venait me voir, je (j') - - - content.

- A) suis B) serais  
C) ai été D) étais

11. S'il - - - chaud, ils iront à la plage.

- A) fais B) faisons  
C) faites D) fait

12. Jérôme : Tunç travaille en France ?

Serdar : Oui, il y - - - depuis deux ans.

- A) travaille  
B) ne travaille pas  
C) travaille  
D) ne travaille pas

13. Sabine : Tu as déjà lu ce livre ?

Fabrice : Oui, je - - - ai lu le mois dernier.

- A) le (l') B) leur  
C) les D) la (l')

14. Rose : Ta fille aime les films d'aventures ?

Odile : Oui, elle - - - aime beaucoup.

- A) la B) du  
C) les D) de la

15. Maman : Tu prends du lait ?

Enfant : Non, je ne prends pas - - - lait.

- A) des B) de  
C) du D) de la

16. Un piano sert à - - - .

- A) faire de la musculation  
B) faire de la peinture  
C) faire de la randonnée  
D) faire de la musique

17. Cümleler sırasıyla okunduğunda anlam bütünlüğünü bozan cümleyi bulunuz.

(I) Il a de la barbe. (II) Il fait très froid.  
(III) Il a un nez épaté. (IV) Il a les yeux verts.

- A) I B) II C) III D) IV

18 - 20. sorularda verilen resme göre doğru ifadenin bulunduğu seçeneği işaretleyiniz.

18.



- A) Il a les cheveux longs et il porte des lunettes.  
B) Il a de la barbe et il porte un chapeau et une cravate.  
C) Il a les cheveux frisés et il porte un foulard.  
D) Il a les lèvres minces et il porte une casquette noire.

19.



Il est - - - et il a - - - .

- A) chauve / de grandes lunettes  
B) musclé / un foulard  
C) blond / de petites dents  
D) jeune / les cheveux courts

20.



Elle porte - - - .

- A) un bracelet B) une veste  
C) un foulard D) un collier

(244) İNGİLİZCE – 5

1 - 20. sorularda boş bırakılan yere uygun gelen sözcük ya da ifadeyi işaretleyiniz.

1. I didn't go to work - - - .

- A) next week B) tomorrow  
C) last week D) soon

2. Maria - - - a shower in the afternoon.

- A) had B) drove  
C) went D) studied

3. - - - I came to school, the students were having an exam.

- A) While B) When  
C) Yet D) For

4. I have lived in Ankara - - - 10 years.

- A) already B) since  
C) yet D) for

5. My sister - - - live in England in the future.

- A) have B) will  
C) was D) has

6. My parents were - - - TV when I came in.

- A) drinking B) writing  
C) eating D) watching

7. My car has been out of order - - - last Monday.

- A) since B) just  
C) ago D) for

8. Max - - - drink milk when he was a child.

- A) may B) must  
C) used to D) should

9. The coach hopes his team will - - - the champion.

- A) smell B) win  
C) cook D) be



# 1. OTURUM

## (244) ALMANCA – 5

1 - 19. sorularda boş bırakılan yere uygun gelen kelime ya da ifadeyi işaretleyiniz.

1. Fiat : 180 km/h  
BMW : 240 km/h  
Porsche: 260 km/h

**Der Fiat ist das ---- Auto.  
Der Porsche ist das ---- Auto.**

- A) schnellste / langsamste  
B) schneller / langsamer  
C) langsam / schnell  
D) langsamste / schnellste

2. **A: ---- kommt sie immer so spät?  
B: ---- sie kein Auto hat.**

- A) Wann / Denn  
B) Wie / Darum  
C) Warum / Weil  
D) Wozu / Um

3. **Der Kurs ist ---- Samstag ---- 10 Uhr.**

- A) am / um B) um / zu  
C) im / von D) zu / am

4. **---- will mit mir Deutsch lernen?**

- A) Wie B) Wer  
C) Wen D) Was

5. **Die Semesterferien sind immer ---- Januar.**

- A) am B) um C) im D) zu

6. **A: ---- lernst du Englisch?  
B: ---- in England zu studieren.**

- A) Warum / Weil B) Wie / Denn  
C) Wo / Als D) Wozu / Um

7. **A: ---- hast du dein Fahrrad gegeben?  
B: Ich habe es Hakan gegeben.**

- A) Wem B) Was  
C) Wie D) Warum

8. **Du ---- zum Arzt gehen, wenn du Zahnschmerzen hast.**

- A) können B) muss  
C) darf D) solltest

9.



1 2 3

**Der dritte Mann ist ----.**

- A) dünner  
B) leichter  
C) am schwersten  
D) am leichtesten

10. **A: ---- wäschst du dein Auto?  
B: Jede Woche.**

- A) Wozu B) Wie oft  
C) Bis wann D) Womit

11. **gut, ----, am besten**

- A) besser B) guter  
C) gutes D) besseres

12. **Ich lerne viel, ---- ich viel lernen möchte.**

- A) denn B) ob  
C) dass D) weil

13. **---- die Tür zu ist, weiß ich nicht.**

- A) Wer B) Wessen  
C) Warum D) Womit

14. **Man sollte ---- seine Großeltern besuchen.**

- A) ungefähr B) immer  
C) weil D) obwohl

15. **Du ---- jetzt ins Kino gehen.**

- A) darfst B) kommst  
C) bist D) hast

16. **Du bist zu Hause? Ich dachte du ---- in der Schule.**

- A) ist B) bist  
C) hast D) sein

17. **Jeden Dienstag habe ich --- 10 Uhr ---- 12 Uhr Tanzkurs.**

- A) zu / im B) um / zu  
C) von / bis D) am / vor

# 1. OTURUM

18. A: ---- hast du Geld gespart?

B: ---- in Australien Ferien zu machen.

- A) Warum / Weil  
B) Wie / Denn  
C) Wann / Damit  
D) Wozu / Um

19. Wir fahren jeden Sommer nach Bodrum, ---- es gefällt uns dort sehr.

- A) warum B) denn  
C) um D) weil

20. Aşağıdakilerden hangisinde derecelendirme doğru yapılmıştır?

- A) Ein modernes Haus.  
B) Eine größere Frau.  
C) Ein fleißiges Schüler.  
D) Ein wärmerer Wetter.

## (244) FRANSIZCA – 5

1 - 20. sorularda boş bırakılan yere uygun gelen sözcük ya da ifadeyi işaretleyiniz.

1. Mon mari est dentiste, et ma fille aussi. ---- travaillent dans le même cabinet.

- A) Ils B) Elles  
C) Nous D) Je

2. L'Afrique est un continent chaud ---- il y a beaucoup d'animaux sauvages.

- A) qui B) qu'  
C) où D) dont

3. Marie va chez son amie Zeynep pour parler avec ----.

- A) elle B) il  
C) tu D) ils

4. Istanbul est une grande ville ---- offre beaucoup de belles choses.

- A) dont B) qu'  
C) où D) qui

5. Ma voiture ne marche pas. Je ne sais pas ---- aller au travail.

- A) parce que B) combien  
C) où D) comment

6. La cravate ---- tu portes est très longue.

- A) dont B) que  
C) qui D) où

7. Le grand architecte Sinan ---- venu au monde en 1490, à Kayseri.

- A) est B) a  
C) sont D) es

8. En hiver les gens vont ---- pour faire du ski.

- A) au café  
B) à la bibliothèque  
C) à la montagne  
D) à l'opéra

9. Selon les prévisions météorologiques, ---- il va faire beau et très chaud sur tout le pays.

- A) hier  
B) demain  
C) la semaine dernière  
D) lundi passé

10. Je préfère écouter les chansons ---- les paroles portent un message.

- A) dont B) que  
C) qui D) ce que

11. Il faut faire attention au feu de signalisation ---- la rue.

- A) traversant  
B) traversent  
C) traverser  
D) en traversant

12. Un restaurant ---- du kébab ? Il y en a beaucoup dans ce quartier.

- A) faire B) fais  
C) faisant D) en faisant

13. Pendant les grandes ----, j'ai lu tous les romans de cet auteur.

- A) bibliothèques  
B) mois  
C) livres  
D) vacances

14. Si Paul a assez d'argent, il ira ---- au bord de la mer.

- A) empêcher B) tomber  
C) vivre D) saluer

15. Si tu es fatigué, va te coucher dans ton ---- !

- A) chaise B) lit  
C) piscine D) chambre

16. Funda va à l'école à pied ---- sa maison n'est pas loin.

- A) parce que B) pourquoi  
C) quand D) pour

17. Ma femme et ma fille ---- fait le tour du marché pour acheter un blouson.

- A) avons B) ont  
C) sont D) êtes

18. ---- Hollande, les jeunes vont à l'école ---- vélo.

- A) Au / en B) En /aux  
C) En / à D) À / en

19. Cemil : ---- tu rentres chez toi ?  
Jacques : À pied.

- A) Comment B) Quand  
C) Pourquoi D) Combien

20. Les bébés d'aujourd'hui mangent en ---- la télévision.

- A) regarde B) regarder  
C) regardons D) regardant

## (401) DİL VE ANLATIM – 1

1. Aşağıdaki dizelerin hangisinde ün-süz yumuşamasına örnek yoktur?

- A) O dağın ötesindeydi bütün umutlarım  
B) Bir bıçağın ağzında yürür gibiydin  
C) Demirlerin soğukluğu soluk dudaklarında  
D) Gözlerinde karanlığı dar hücrelerin

# 1. OTURUM

2. Ufkun dört duvarına kanadını vurarak Rüzgâr sürüklenirken derinlerden derine,  
Gümüş yelkenlerini yüksekte savurarak  
Bir gemi yelken açtı hayal iklimlerine.

**Bu dizelerde aşağıdaki ses olaylarından hangisi yoktur?**

- A) Ünsüz benzeşmesi  
B) Ünsüz yumuşaması  
C) Ünlü düşmesi  
D) Ünlü birleşmesi

3. Dil düşüncenin aynasıdır. Onun için dil bir milletin düşünce sistemini gösterir. İnsan dil ile düşünür. Bu bakımdan dil onu kullanan milletin kafa yapısını, nasıl düşündüğünü, o milletin fertlerinin zihninin nasıl çalıştığını ortaya koyar; millî düşünce yapısını yansıtır.

**Bu parçada anlatılmak istenen aşağıdakilerden hangisidir?**

- A) Dil, zaman içerisinde değişime uğrar.  
B) Düşünceler dil yoluyla ortaya konur.  
C) Dil, bir milletin ortak kimliğidir.  
D) Dil kullanma becerisi, bireyleri sosyalleştirir.

4. O sahibinin sesi gramofonlarda çalınan şey  
İncecik melankolisiymiş yalnızlığının  
İntihar karası bir fatona binmiş  
geçerken ablam  
Caddelerinden ölümler aşkı Pera'nın

**Bu dizelerde altı çizili sözcüklerden hangisi küçük ünlü uyumuna uymaktadır?**

- A) I. B) II. C) III. D) IV.

5. I. Esrikmiş her hâl bahçe çiçekleri ablam  
II. Çiçeksiz bir çiçekçi dükkânının önünde durmuş  
III. Tüllere sarılı mor bir Karadağ tabancasıyla  
IV. Zakkum fotoğrafları varmış Cezayir menekşeleri camekânda

**Numaralanmış dizelerin hangisinde tüm sözcükler büyük ünlü uyumu kuralına uymaktadır?**

- A) I. B) II. C) III. D) IV.

6. **Aşağıdaki cümlelerin hangisinde "ki"nin yazımında yanlışlık yapılmıştır?**

- A) Geçmiş zaman olur ki hayali cihan deđer.  
B) Yarın ki konferansa hazırlanmam gerekiyor.  
C) Yazık ki bu insanlar sesini duymuyor.  
D) Seni görmeyi öyle istedim ki içimden anlatamam.

7. **Aşağıdakilerin hangisinde sayıların yazımıyla ilgili yanlışlık yapılmıştır?**

- A) Bize miras kalan evleri 2'şer 2'şer paylaştık.  
B) Sizi 13.30'da ofiste bekliyor olacağım.  
C) Bütün gün sadece on iki kişi ziyarete geldi.  
D) Bu topraklarda bin yıldan beri biz yaşıyoruz.

8. **Aşağıdaki cümlelerin hangisinde yazım yanlışı yapılmamıştır?**

- A) Haftaya Cumartesi konser düzenleyeceğiz.  
B) Topkapı Sarayı'nda restorasyon çalışması yapılacak.  
C) Ankara'nın Batı'sında şiddetli yağmur bekleniyor.  
D) Bu yıl kutlamalar Zafer meydanında yapılacak.

9. Bozuk kaldırımların üzerinde buz tutmuş çamur parçalarını kırarak erkenden işe gidenler ( ) fabrikanın önünde bir parça dinlenirler ( ) kocaman duvara sırtlarını vererek üstüne zencefil ve tarçın serpilmiş salep içerlerdi ( )

**Bu parçada yay ayrıca belirtilen yerlere sırasıyla aşağıdaki noktalama işaretlerinden hangileri getirilmelidir?**

- A) ( ; ) ( ; ) ( . )  
B) ( , ) ( : ) ( ... )  
C) ( ; ) ( ; ) ( ... )  
D) ( , ) ( ; ) ( . )

10. **Aşağıdaki cümlelerden hangisinin sonuna soru işareti getirilemez?**

- A) Bu gidilen yollar hiç bitmeyecek mi  
B) Yeni kurallar için ne düşünüyorsunuz  
C) Hava karardı mı eve gideriz  
D) Bugün evlerimize geri dönebilir miyiz

11. Sondan eklemeli dillerde sözcük kök veya gövdelerinin sonuna yapım eki eklenerek yeni sözcükler türetilir.

**Aşağıdaki sözcüklerden hangisi bu açıklamaya örnek gösterilemez?**

- A) Tilki B) Bitki  
C) Katkı D) Atkı

12. **Aşağıdakilerden hangisi yazı dili ile konuşma dili arasındaki farklardan değildir?**

- A) Konuşma dili, işitme duyumuza; yazı dili ise görme duyumuza hitap eder.  
B) Konuşma dilinde vurguya, tonlamaya; yazı dilinde noktalamaya ve yazım kurallarına dikkat edilir.  
C) Yazı dilini her türlü yazışmada, konuşma dilini günlük yaşamda kullanırız.  
D) Yazı dilinde bölgesel farklılıklar vardır, konuşma dilinde ise yoktur.

13. **Aşağıdakilerden hangisi çekimli dillerden değildir?**

- A) Arapça B) Farsça  
C) Çince D) Almanca

- 14.

Farsça Sözcükler	İngilizce Sözcükler
Peder (baba)	Father (baba)
Mader (anne)	Mother (anne)
Nev (yeni)	New (yeni)

**Bu tablodan hareketle bu iki dil ile ilgili aşağıdakilerden hangisi söylenir?**

- A) Eklemeli dillerden oldukları  
B) Aynı dil ailesine ait oldukları  
C) Yaygın olarak kullanıldıkları  
D) Yapı olarak tek heceli dil oldukları

15. Bahçedeki sümbüller açtı.

**Bu cümlede altı çizili sözcükteki seslerle ilgili aşağıdakilerden hangisi söylenemez?**

- A) Düz-dar ünlüler kullanılmıştır.  
B) Dudak ünsüzleri bulunmaktadır.  
C) Dar-yuvarlak ünlü vardır.  
D) Ünlülerin tamamı incedir.

16. **Aşağıdakilerden hangisi Uygurca ile yazılmış eserlerden biridir?**

- A) Kültigin Yazıtı  
B) Kutadgu Bilig  
C) Altun Yaruk  
D) Atabetül Hakayik

# 1. OTURUM

17. Aşağıdakilerden hangisi Türkçenin gelişmesine katkı sağlayanlardan biri değildir?

- A) Kaşgarlı Mahmut  
B) Ömer Hayyam  
C) Edip Ahmet Yükneki  
D) Yunus Emre

18. Antrenör, saha kenarından "İleri gidin!" diye bağıırıyordu.

**Bu cümlede iletişimi oluşturan öğelerden hangisi yoktur?**

- A) Kaynak B) Mesaj  
C) Kanal D) Dönüt

19. Dilin doğuşunu, gelişimini, seslerini, sözcük yapılarını, sözcüklerin anlamını, sözcük köklerini ve cümle kuruluşunu inceleyen ve bunları kurallara bağlayan bilim dalına " - - - " denir.

**Bu cümlede boş bırakılan yere aşağıdakilerden hangisi getirilmelidir?**

- A) dil ailesi B) konuşma dili  
C) dil bilgisi D) toplum bilimi

20. Aşağıdaki iletişim araçlarından hangisi diğerlerine göre daha etkilidir?

- A) Dil  
B) Bayrak  
C) Trafik işaretleri  
D) Mimik

## (402) DİL VE ANLATIM – 2

1. Bir pırıltılı hâlinde yayılır bostanlara

Kuyu çıkırıklarında dönüp çözülen sesler

Birer çınar dibinde serilip yatanlar

Gürültülü bir ninni mırıldanır kümesler

**Bu dizelerde numaralanmış sözcüklerden hangisinin kökü tür yönüyle diğerlerinden farklıdır?**

- A) I. B) II. C) III. D) IV.

2. I. Gurbetten gelmişim, yorgunum hancı  
II. Şuraya bir yatak ser yavaş yavaş  
III. Aman, karanlığı görmesin gözüm!  
IV. Beyaz perdeleri ger yavaş yavaş

**Numaralanmış dizelerin hangisinde yapım eki almış sözcük bulunmamaktadır?**

- A) I. B) II. C) III. D) IV.

3. İnsan, Venüs gezegeninde olsa aynı anda hem sıcaktan kavrulur hem havadaki asitten yanar hem de oksijensizlikten boğulur. Dünya, uzayda çöl ortasındaki vaha gibi. Ne atmosferinin hemen hemen hepsi karbondioksitten oluşan Venüs gibi sıcaklığı 460 dereceyi geçiyor ne de Mars gibi ortalama sıcaklığı yaklaşık eksi 60 derece. Mars'taki kum fırtınaları tüm gezegeni kaplayıp aylarca sürebiliyor, Neptün'deki rüzgârların hızı saatte 2100 kilometreye varıyor. Merkür'ün yer çekimi bir atmosfer tutamayacak kadar zayıf.

**Bu parçanın anlatımında aşağıdakilerden hangisine yer verilmemiştir?**

- A) Sayısal verilere  
B) Benzetmeye  
C) Karşılaştırmaya  
D) Tanımlamaya

4. "Tatlı" sözcüğü aşağıdaki cümlelerin hangisinde gerçek anlamda kullanılmıştır?

- A) Küçük yeğenlerim beni görünce tatlı tatlı gülümsediler.  
B) Bayram için köşedeki pastaneye tatlı siparişi verdim.  
C) Hayat benim için çok tatlı bir hâl almıştı.  
D) Bakışları o kadar tatlıydı ki gözlerimi alamıyordum.

5. Aşağıdaki cümlelerin hangisinde karşıt anlamlı sözcükler kullanılmamıştır?

- A) Babam vefat edeli aşağı yukarı kırk gün olmuştu.  
B) Kurunun yanında yaş da yanarmış.  
C) Üzüm bağları köyün dört bir yanını sarmıştı.  
D) Keşke kötüler kadar iyilerin de sesi çıksaydı!

6. Aşağıdaki cümlelerde altı çizili sözcüklerden hangisi somut anlamda kullanılmıştır?

- A) Çağlayanın sesi buraya kadar geliyor.  
B) Karşılıklı saygı, eşleri bir arada tutan köprüdür.  
C) Bebekler aile hayatına renk katar.  
D) Eski defterlerin kapatılmasıyla düşmanlıkları bitti.

7. Aşağıdaki dizelerin hangisinde hem sıfat tamlaması hem de isim tamlaması kullanılmıştır?

- A) Her gün aynı pınardan doldurup destimizi  
Kırlara açılırız çingiraklarımızla  
B) Biz kaybettik birimizi,  
Sazlar sardı yerimizi.  
C) Kalbim, sonsuzca sana akar kalbim.  
Bunca denizler, körfezler koylar gitsin.  
D) Orhan zamanından kalma bir duvar...  
Onunla bir yaşta ihtiyar bir çınar

8. "Şair, 1940'tan sonra uyak ve ölçüden uzaklaşmıştır." cümlesinin öge dizilişi aşağıdakilerin hangisidir?

- A) Zarf tümleci – Dolaylı tümleç – Özne – Yüklem  
B) Özne – Belirtisiz nesne – Zarf tümleci – Yüklem  
C) Özne – Zarf tümleci – Dolaylı tümleç – Yüklem  
D) Dolaylı tümleç – Zarf tümleci – Özne – Yüklem

9. Aşağıdaki cümlelerin hangisi yüklemının türüne göre ötekilerden farklıdır?

- A) İnsanlarımız trafik kurallarını bilmiyorlar.  
B) Rüzgârdı bize çocukluğumuzda ninniler söyleyen.  
C) Köyün bütün ihtiyarları soğuk nedeniyle hastaydı.  
D) Hayattaki tek dostu evindeki ke-disiydi.

10. Aşağıdaki cümlelerin hangisi yapıca ötekilerden farklıdır?

- A) Yolculuk boyunca şarkılar söylen-di, oyunlar oynandı.  
B) Gerçek öğretmenler, öğrenmeyi öğretenlerdir.  
C) Yağmur durmadan yağıyor, göz açtırmıyordu.  
D) Kimsesizlere sahip çıkar, yardım ederdi.

11. "Bu, on iki yaşındaki çocuğun yapabileceği bir ödev değildi." cümlesinin özellikleri aşağıdakilerin hangisinde doğru olarak verilmiştir?

- A) Olumsuz – basit – kurallı  
B) Olumlu – basit – devrik  
C) Olumlu – birleşik – kurallı  
D) Olumsuz – birleşik – kurallı

## 1. OTURUM

12. Bu haksız iftira, onun hayatını karartmıştı.

**Bu cümledeki hangi sözcük atılırsa anlatım bozukluğu giderilmiş olur?**

- A) iftira                      B) hayatını  
C) haksız                      D) onun

13. İnsanın, içini dökmekten edemediği dakikalar olur. Bir dost, bu dakikalarda erişilmez bir değer kazanır. Ama her şey bir dosta söylenmez ki! İşte bu anlarda kalem ve kâğıda ihtiyaç duyar insan. Hele insan bir yazarsa, içindeki gizli duyguları görmeyi biliyorsa masasının başına geçip kalemi eline almadan edemez. İşte günlük dediğimiz, yazarın alçak sesle konuşmasından başka bir şey olmayan, günü gününe tutulmuş defterler bu iç dökme ihtiyacından doğmuştur. Bu yüzden sessiz bir konuşma olan bu günlükleri bir edebiyat türü saymaya imkân yoktur.

**Bu parçaya göre günlüklerle ilgili aşağıdakilerden hangisi söylenemez?**

- A) Edebî bir tür olarak kabul edilemeyeceği  
B) İnsanın sosyalleşmesini sağladığı  
C) Yeri geldiğinde kişiye herkesten daha yakın olduğu  
D) Düzenli olarak tutulduğu

14. Bozburun Yarımadası'nın gizli hazinesi Selimiye, Ege ile Akdeniz'i buluşturan konumu ve el değmemiş doğasıyla gürülmeye değer bir yer. Şelaleleriyle ünlü Turgut köyünden sonra çam ağaçları arasından kıvrılan yol, iki kilometre kadar ileride ikiye ayrılıyor.

**Bu paragrafın türü aşağıdakilerden hangisidir?**

- A) Açıklama                      B) Çözümleme  
C) Olay                              D) Betimleme

15. I. Bu uçurumu ortadan kaldırma işinin başında sayılırız.  
II. Ancak ne yazık ki, hâlâ aramızda düşündüğünü konuşur gibi yazmaya çalışanları kötüleyen kişiler var.  
III. Halk çoğunluğunun diliyle kitapların dili arasındaki ayrılığın göze battığı yerde millî kültür gelişiyor demektir.  
IV. Millî kültürün gelişmemesi de bu iki dil arasında uçurumu derinleştirir.

**Bu cümlelerle anlamlı bir paragraf oluşturulduğunda sıralama aşağıdakilerden hangisi olur?**

- A) I – III – II – IV  
B) III – IV – I – II  
C) III – II – IV – I  
D) III – I – IV – II

16. (I) Her balık türü deniz ekosistemleri için önemlidir. (II) Özellikle besin zincirinin başında yer alan büyük türler, tüm zincirin devamı için farklı bir önem taşır. (III) Farklı türler, denizde farklı yaşam alanlarına sahiptir. (IV) Bu balık türlerinden her biri, bir başka türün varlığını devam ettirebilmesi için gereklidir.

**Bu parçada numaralanmış cümlelerin hangisinden sonra "Örneğin sardalya, hamsi, orkinos ve uskumru gibi türler yüzeye yakın; mezgit, dil, berlam gibi balıklar ise dibe yakın yaşar." cümlesi getirilirse anlam akışına uygun olur?**

- A) I.      B) II.      C) III.      D) IV.

17. Aşağıdaki dizelerin hangisinde hem haber hem de dilek kipiyle çekimlenmiş fiiller vardır?

- A) Kadın, çamaşırdan dönüyor olmalıydı  
Kolunda bohça, sert soda kabartmış ellerini.  
B) Sinemalarda kalabalık sahneler görürsün.  
Eski esir pazarlarını hatırlatır.  
C) Sen onları tanısan da tanımasan da  
Sonunda her biri senden iyi  
D) Taksim'den Tünel'e kadar yürüdük.  
Alçak sesle konuşuyorlardı aralarında.

18. Ek-fil, isim soylu sözcüklere gelerek onların yüklem olmalarını sağlar.

**Aşağıdaki cümlelerin hangisinde bu açıklamaya uygun örnek yoktur?**

- A) Antalya bu yıl beklediğimizden de sakindi.  
B) Babam o yıllarda Mamak'ta askermiş.  
C) Dostlarımızı hep yanımızda görmek isterdik.  
D) Teyzesi o hastanede uzman doktormuş.

19. "Davar" sözcüğü eskiden "mal, mülk" anlamında kullanılmakta iken günümüzde sadece "küçükbaş hayvan sürüsü" anlamında kullanılmaktadır.

**Bu durum aşağıdakilerden hangisiyle ifade edilir?**

- A) Anlam iyileşmesi  
B) Anlam daralması  
C) Anlam genişlemesi  
D) Anlam kötüleşmesi

20. Kitapta belli bir olay örgüsü yok. Onun yerine düşünce, düş dünyasında belli bir doğrultuda ilerlemeyen olaylar hâkim. Zihnin olay içerisinde var olmasının aktarılmasından çok, zihnin olay karşısında işleyiş süreci ele alınıyor. Bu anlamda okurun ilk bölümlerde kitaba kendini yakın hissetmesi zaman alıyor. İçsel konuşmalar, gündelik kelimeler eşliğinde verilerek okurun, kitabın içine girmesi sağlanıyor.

**Bu parçada söz konusu kitapla ilgili aşağıdakilerden hangisine değinilmemiştir?**

- A) İçeriğine  
B) Yazılma amacına  
C) Üslubuna  
D) Okurda bıraktığı etkiye

### (407) DİL VE ANLATIM – 7

1. Aşağıdakilerden hangisi sanatsal metinlerin özelliklerinden değildir?

- A) Dil göndergesel işlevde kullanılır.  
B) Sanatlı ve süslü bir anlatım vardır.  
C) Duygu ve hayaller aktarılır.  
D) Etkisi okuyucunun kültür düzeyine göre değişiklik gösterir.

2. Dar bir koridora girdik, kapının önündeki uğultu iyice arttı. Artık okunan Kur'an'ın sözcüklerini seçebiliyorduk, duanın dışında ne ağlama sesi vardı ne de ayılıp bayılanların çığlıkları. Ev halkı, metanetle karşılaşmış olmalıydı Mukadder Kınacı'nın ölümünü.

**Bu parçada aşağıdakilerden hangisiyle ilgili bir ayrıntı yoktur?**

- A) Mekân                      B) Olay  
C) Zaman                      D) Kişi

3. Aşağıdakilerin hangisinde bilgi yanlışlığı vardır?

- A) Fabl türünün Doğu'daki ilk temsilcilerinden biri Beydeba'dır.  
B) Batı'da fabl Aisopos (Ezop) masallarıyla kendini göstermiştir.  
C) Doğu'da fabl türünde ilk yazılı örnek "Kelile ve Dimne"dir.  
D) Doğu edebiyatında Şeyh Sadî'nin "Gülîstan" adlı eseri de fabl türündedir.

## 1. OTURUM

4. Aşağıdaki eserlerden hangisi fabl türüne örnek gösterilemez?

- A) Harname
- B) Mantıku't Tayr
- C) Küssadan Hisse
- D) Dülger Balığının Ölümü

5. Aşağıdaki parçalardan hangisi bir masalın serim bölümünden alınmıştır?

- A) Komşular, balıkçının oğlunun hâllerinden şüpheye düşmüşler.
- B) Bir varmış, bir yokmuş; evvel zamanların birinde, bir padişahın ülkesinde fukara bir balıkçı varmış.
- C) Balıkçının oğlu elli gün sazınan, altmış gün davulbazınan öylesine gösterişli bir düğün yaptırmış ki konanlar göçmüş, yiyenler içmiş, maşallah diyen geçmiş.
- D) "Bana üç cennet elması getirirsen esvaplarını veririm." demiş. Huri kızı, elmaları getireceğine söz verdikten sonra esvaplarını giymiş, cennete varıp heybenin terkisini elma ile doldurmuş, bütün huri kızlarıyla vedalaşıp delikanlının yanına dönmüş.

6. Aşağıdakilerden hangisi Batı'da masalların kökenini ilk araştıran derlemecidir?

- A) Wilhelm Grimm
- B) La Fontaine
- C) Andersen
- D) Oscar Wilde

7. Aşağıdakilerden hangisi halk hikâyesinin genel özelliklerinden biri değildir?

- A) Anlatımda nazım ve nesir bir arada bulunur.
- B) Yöresel tabirlerin yer aldığı yalın bir dil kullanılır.
- C) Anlatımında ilahi bakış açısı söz konusudur.
- D) Okuyucuda acıma ve korku duyguları uyandırmak için yazılan metinlerdir.

8. Aşağıdakilerden hangisi olay hikâyesinin temsilcilerinden biridir?

- A) Memduh Şevket Esendal
- B) Reşat Nuri Güntekin
- C) Namık Kemal
- D) Buket Uzuner

9. Aşağıdakilerden hangisi hikâye türünün öğelerinden değildir?

- A) Olay
- B) Yer
- C) Serim
- D) Zaman

10. Aşağıdakilerden hangisi olay hikâyesinin özelliklerinden biridir?

- A) Olay, kişi, mekân ilişkisi okuyucuda gerçeklik duygusu uyandırır.
- B) Serim, düğüm, çözüm planına uyulmaz.
- C) Hikâyelerde merak ögesi ikinci plandadır.
- D) Anlatımda sıkça rastlantılara yer verilir.

11. Aşağıdakilerden hangisi benmerkezli hikâyenin özelliklerinden değildir?

- A) Yazarın kişiliğiyle kahramanın kişiliği iç içe girmiştir.
- B) Gerçeklikle hayaller bir arada verilir.
- C) Hikâyeler genellikle ilahi bakış açısıyla yazılır.
- D) Hikâyeler beklenmedik bir sonla bitirilir.

12. Aşağıdakilerden hangisi edebiyatımızda Batılı anlamda ilk öykü örneğidir?

- A) Küçük Şeyler
- B) Kerem ile Aslı
- C) Küssadan Hisse
- D) Yaz Yağmuru

13. Gazete kupürleri, radyo haberleri, reklamlar ve farklı metinlerin bir araya getirilmesinden oluşan bir tekniktir.

**Bu cümlede tanımı verilen çağdaş Batı romanı anlatım tekniği aşağıdakilerden hangisidir?**

- A) Biliç akımı
- B) Leitmotiv
- C) Görece zaman anlayışı
- D) Montaj

14. Akla karşı duyguyu, seçkin sınıfa karşı halkı, süslülüğe karşı doğallığı, kurallara karşı kuralsızlığı işleyen romanlardır. Victor Hugo'nun Sefiller'i, Namık Kemal'in İntibah'ı bu türde roman örnekleridir.

**Bu parçada sözü edilen roman türü aşağıdakilerden hangisidir?**

- A) Klasik
- B) Romantik
- C) Realist
- D) Natüralist

15. Aşağıdakilerden hangisi Tanzimat Dönemi'nde yazılan romanlardan değildir?

- A) Araba Sevdası
- B) İntibah
- C) Yaban
- D) Felatun Bey'le Rakım Efendi

16. Aşağıdakilerden hangisi tragedya ile komedinin ortak özelliklerinden biridir?

- A) Konular çağdaş toplumdan ve günlük hayattan alınır.
- B) Kişiler çoklukla halktan insanlardır.
- C) Üç birlik kuralına uyulur.
- D) Erdeme ve ahlaka üstün değer verilir.

17. Aşağıdakilerden hangisi manzume ile şiir arasındaki farklardan biri değildir?

- A) Şiirler daha çok didaktik, manzumeler ise lirik metinlerdir.
- B) Şiirde olay örgüsü yoktur, manzume olay örgüsü vardır.
- C) Şiirde çok anlamlılık ağır basarken manzumede sözcükler genelde gerçek anlamda kullanılır.
- D) Şiirde bireysellik, duygu ve çağırışım ön plandadır; manzumede yaşanmış veya yaşanabilecek olaylar işlenir.

18. I. Gazel  
II. Koşma  
III. Mesnevi  
IV. İlahi

**Numaralanmış nazım biçimlerinden hangileri klasik Türk şiirine aittir?**

- A) I ve II.
- B) I ve III.
- C) II ve IV.
- D) III ve IV.

19. Mor menevşe boynun eğmiş  
Yapracığı suya değmiş

**Bu dizelerde görülen söz sanatı aşağıdakilerden hangisidir?**

- A) Teşhis (kişileştirme)
- B) Tariz (iğneleme)
- C) İntak (konuşturma)
- D) Teşbih (benzetme)

20. Daha deniz görmemiş bir çoban çocuğuyum,  
Bu dağların eskiden aşinasıdır soyum.  
Bekçileri gibiyiz, ebanced buraların,  
Bu tenha derelerin, bu vahşi kayaların.

**Bu dizeler aşağıdaki şiir türlerinden hangisine örnektir?**

- A) Lirik
- B) Pastoral
- C) Didaktik
- D) Dramatik

# 1. OTURUM

## (408) DİL VE ANLATIM – 8

### 1. Konferansta dil ağırlıklı olarak hangi işlevde kullanılır?

- A) Göndergesel
- B) Alıcıyı harekete geçirme
- C) Kanalı kontrol
- D) Şiirsel

### 2. Aşağıdakilerden hangisi açık oturumun özelliklerinden değildir?

- A) Amaç, bir düşünceyi dinleyicilere benimsetmektir.
- B) Konuşmalarda eleştiri vardır fakat suçlama yoktur.
- C) Konuşmacı sayısının altıyı geçmemesine dikkat edilir.
- D) Bir konu üzerinde birlikte düşünme isteği çerçevesinde düzenlenir.

### 3. Sempozyumda yeni bilgiler ile önerilerin açıklandığı ve tartışıldığı bölüm aşağıdakilerden hangisidir?

- A) Giriş
- B) Deney
- C) Sonuç
- D) Bulgular

### 4. Türkiye'deki mühendislik sorunlarına iki açıdan bakmak mecburiyetindedir. Bunlardan biri, ileri düzeyde teknoloji kullanan ve her zaman için dünyada teknoloji üreten kesimlerle yakın ilişki içerisinde olup sürekli teknoloji üreten ve teknoloji transfer eden kuruluşların bakış açısıdır.

**Bu forum metninde kullanılan anlatım türleri aşağıdakilerin hangisinde doğru olarak verilmiştir?**

- A) Kanıtlayıcı – Tartışmacı
- B) Açıklayıcı – Öğretici
- C) Betimleyici – Açıklayıcı
- D) Öyküleyici – Öğretici

### 5. "Sanat toplum için midir yoksa sanat için midir?" sorusunu ele almaya en uygun tartışma türü aşağıdakilerden hangisidir?

- A) Forum
- B) Sempozyum
- C) Münazara
- D) Konferans

### 6. Aşağıdakilerin hangisi bilimsel yazıların bölümlerinden biri değildir?

- A) Başlık
- B) Özet
- C) Dokümantasyon
- D) Sonuç ve tartışma

### 7. Aşağıdakilerin hangisi bilimsel yazıların giriş bölümünde dikkat edilmesi gereken özelliklerden değildir?

- A) Çalışmanın gerekliliği ortaya konmalıdır.
- B) Araştırmada ana bulgular dile getirilmeli ve sonuçları belirtilmelidir.
- C) Yazar neyi, niçin ve nasıl kullandığını okuyucuya açıklamalıdır.
- D) Ele alınan konunun daha önceki yayınlarda nasıl ele alındığı anlatılmalıdır.

### 8. Aşağıdakilerden hangisi Cumhuriyet Dönemi'nin ilk yıllarında makale yazan gazetecilerden biri değildir?

- A) Falih Rıfkı Atay
- B) Hüseyin Cahit Yalçın
- C) Ali Naci Karacan
- D) İbrahim Şinasi

### 9. Bilimsel yazılar ve makalelerde dil aşağıdaki işlevlerinden hangisiyle kullanılır?

- A) Şiirsel (Sanatsal)
- B) Kanalı kontrol
- C) Göndergesel
- D) Alıcıyı harekete geçirme

10. • Genellikle bilimsel, sanatsal ve ekonomik konularda verilir.  
• Alanında uzman bir kişinin görüşlerini aktardığı türdür.  
• Açıklayıcı, öğretici, kanıtlayıcı ve tartışmacı anlatım türleri kullanılır.

**Bu özellikler aşağıdaki sözlü anlatım türlerinden hangisine aittir?**

- A) Münazaraya
- B) Foruma
- C) Konferansa
- D) Sempozyuma

11. Radyo ve televizyonlarda çeşitli sorunlar hakkında düzenlenen toplantılar, açık oturum türünde yapılmaktadır. Açık oturumda izleyicilerin sorularını almak ve cevaplamak da mümkündür. Bu takdirde açık oturum - - - - dönüşmektedir.

**Bu parçada boş bırakılan yere aşağıdakilerden hangisi getirilmelidir?**

- A) foruma
- B) sempozyuma
- C) konferansa
- D) münazaraya

### 12. Aşağıdakilerden hangisi sempozyum başkanı için söylenemez?

- A) Sempozyumun sonunda forum yapılırsa sempozyum başkanı o toplantının da başkanı olur.
- B) Konuyu açıklayarak konuşmacıları tanıtır, daha sonra konuşmacılara sıra ile sorular yönelir.
- C) Sempozyumun sonunda konuşmalardan çıkarılan sonuçlar, başkan tarafından özetlenir.
- D) Oturumun başarı ve etkinliğinden sorumludur.

### 13. Aşağıdakilerden hangisi münazaranın amaçlarından değildir?

- A) Düşünceleri ve kabulleri karşılaştırmak.
- B) Öğrencilerin karşı fikre saygı duymalarını sağlamak.
- C) Öğrencilerin konuşma yeteneklerinin gelişmesine yardımcı olmak.
- D) Dinleyicileri çeşitli konularda bilgilendirmek.

### 14. Aşağıdakilerden hangisi münazara konusu olabilir?

- A) Cep telefonlarının Türk toplumu üzerindeki etkileri nelerdir?
- B) İkili eğitim neden zararlıdır?
- C) Çok gezen mi, çok okuyan mı bilir?
- D) Türk toplumunda okuma oranları neden düşüktür?

15. 1940'ta Yüksek Öğretmen Okulunu bitiren Cahit Külebi, Antalya Lisesi edebiyat öğretmenliğine atanır ve 1941'de evlenir. Sivas Cumhuriyet Üniversitesi tarafından fahri doktor unvanı verilen Cahit Külebi 20 Haziran 1997'de vefat etmiştir.

**Bu parça için aşağıdakilerden hangisi söylenemez?**

- A) Dil göndergesel işlevde kullanılmıştır.
- B) Nesnel anlatım söz konusudur.
- C) Söz sanatlarına yer verilmiştir.
- D) Açıklayıcı ve öğretici anlatımdan yararlanılmıştır.

### 16. Aşağıdakilerden hangisi bilimsel bir yazı olarak değerlendirilemez?

- A) Konferans raporları
- B) Tarama ve değerlendirme makaleleri
- C) Toplantı özetleri
- D) Roman özetleri

# 1. OTURUM

17. Bir kitabın veya derginin; kişi, konu, yer adı vb. bakımından içindekileri yer numarasıyla belirten ve eserin arkasında yer alan alfabetik listeye - - - - adı verilir.

**Bu cümlede boş bırakılan yere aşağıdakilerden hangisi getirilmiştir?**

- A) indeks B) dipnot  
C) kaynakça D) alıntı

18. Aşağıdakilerden hangisi bilimsel yazırla ilgili terimlerden biridir?

- A) Giriş B) Dipnot  
C) Düşüm D) Sonuç

19. Aşağıdakilerden hangisi konferans veren kişinin dikkat etmesi gereken özelliklerden değildir?

- A) Dinleyiciler sıkılabileceğinden bir saatten fazla konuşmamalıdır.  
B) Dinleyicilerin kültür düzeylerini dikkate almalıdır.  
C) Sözlü anlatım tekniklerine uymak zorunda değildir.  
D) Argo ve kaba sözcükler kullanmaktan kaçınmalıdır.

20. Alınan kararların yayın hâline getirilerek kamuoyu ile paylaşıldığı tartışma türü aşağıdakilerden hangisidir?

- A) Münazara B) Açık oturum  
C) Sempozyum D) Konferans

## (414) TÜRK EDEBİYATI – 4

1. Aşağıdakilerden hangisi İslamiyet'in kabulünün Türk edebiyatına yansımalarından biri değildir?

- A) Şiirlerde aruz ölçüsü kullanılmaya başlanmıştır.  
B) Arap edebiyatı nazım biçimleri kullanılmaya başlanmıştır.  
C) Divan edebiyatının oluşumuna zemin hazırlamıştır.  
D) Sözlü edebiyat tamamen bitmiştir.

2. Alegorik bir eser olan Kutadgu Bilig'de kahramanların her biri bir kavramı temsil eder.

**Buna göre aşağıdaki eşleştirmelerden hangisi yanlıştır?**

- A) Kün Togdı – Bilgi  
B) Ay Toldı – Saadet  
C) Ögdilmiş – Akıl  
D) Odgurmuş – Hayatın sonu

3. Aşağıdakilerden hangisi Divanü Lügati't Türk adlı eserle ilgili söylenemez?

- A) Kitapta sözlü edebiyattan alınmış şiir örnekleri bulunmaktadır.  
B) Sözcüklerin sözlük anlamlarının yanında, açıklamaları da verilmiştir.  
C) Türkçeye Arapçayı öğretmek için yazılmıştır.  
D) Türkçenin ilk sözlüğü ve dil bilgisi kitabıdır.

4. Aşağıdakilerden hangisi dinî tasavvufî Türk edebiyatı alanında eser vermiş sanatçılardan biridir?

- A) Fuzuli  
B) Pir Sultan Abdal  
C) Nedim  
D) Baki

5. Aşağıdaki eserlerden hangisi roman türünün eski edebiyatımızdaki örneği olarak kabul edilebilir?

- A) Atabetü'l Hakayık  
B) Divan-ı Hikmet  
C) Heşt Behişt  
D) Garibnâme

6. Aşağıdakilerden hangisi Türk edebiyatında Leyla ve Mecnun hikâyesini konu olarak almış sanatçılardan biri değildir?

- A) Karacaoğlan  
B) Fuzuli  
C) Âşık Paşa  
D) Ali Şir Nevai

7. Aşağıdakilerin hangisi öğretici eserler arasında gösterilemez?

- A) Kutadgu Bilig  
B) Divan-ı Hikmet  
C) Hüsn ü Aşk  
D) Atabetü'l Hakayık

8. Aşağıdaki sanatçı – eser eşleştirmelerinden hangisi yanlıştır?

- A) Şeyhî – Harnâme  
B) Ahmet Yesevi – Atabetü'l Hakayık  
C) Şeyh Galip – Hüsn ü Aşk  
D) Süleyman Çelebi – Mevlid

9. Aşağıdakilerden hangisi şarkı nazım biçiminde eser vermiş sanatçılarımızdan değildir?

- A) Fuzuli  
B) Nedim  
C) Enderunlu Fazıl  
D) Enderunlu Vasif

10. Klasik Türk şiirinde gazelden sonra en çok kullanılan nazım şeklidir. Bir kişiyi öven veya yeren şiirlerdir. Beyit sayısı 33-99 arasında değişir. Uyak düzeni "aa,ba,ca..." şeklindedir.

**Bu parçada sözü edilen nazım biçimi aşağıdakilerden hangisidir?**

- A) Mesnevi B) Şarkı  
C) Rubai D) Kaside

11. Aşağıdakilerden hangisi klasik edebiyatımızdaki düzyazı örneklerinden biridir?

- A) Cönk B) Divan  
C) Tezkire D) Hamse

12. Aşağıdakilerden hangisi âşık tarzı halk şiirinin özelliklerinden değildir?

- A) Şiirlerde daha çok yarım uyak tercih edilmiştir.  
B) Murabba, rubai gibi nazım şekilleri kullanılmıştır.  
C) Günlük konuşma diline ve halk söyleyişlerine yer verilmiştir.  
D) Aşk, ayrılık, güzellik ve kahramanlık konuları işlenmiştir.

13. Gizli dertlerimi sana anlattım,  
Çalıştım sesimi sesine kattım,  
Bebe gibi kollarımda yaylattım,  
Hayal-i hatır et beni unutma

**Bu dördlük için aşağıdakilerden hangisi söylenemez?**

- A) 11'li hece ölçüsü ile oluşturulmuştur.  
B) Ek hâlinde redif kullanılmıştır.  
C) Uyak düzeni "aaab" şeklindedir.  
D) Nazım biçimi semaidir.

14. Adrasan'dan itibaren sırasıyla Karaöz, Papaz ve Korsan Koyları'nı gördükten sonra 12. kilometrede Mavikent'e varıyoruz. Akdeniz'in en önemli sebze üreticilerinden biri olan beldede kilometrelerce uzanan seralar dikkat çekiyor. Yaklaşık 20 kilometre sonra, gelişmiş bir kent görünümüyle karşımıza çıkan Kumluca tam bir meyve ve sebze deposu.

**Bu parçanın türünün eski edebiyatımızdaki karşılığı aşağıdakilerden hangisidir?**

- A) Seyahatname  
B) Tezkire  
C) Tarih  
D) Mektup



# 1. OTURUM

## (417) TÜRK EDEBİYATI – 7

15. Aşağıdakilerden hangisi dini tasavvufi halk şiiri nazım türlerindenidir?

- A) Şarkı B) Devriye  
C) Mesnevi D) Kaside

16. Sanatçının doğum ve ölüm tarihleri tam olarak bilinmemektedir. XI. yüzyılda yaşamıştır. Eserinden Arapça ve Farsçayı çok iyi bildiği anlaşılmaktadır. Türklerin yaşadığı coğrafyaları dolaşarak yaptığı araştırmadan sonra "Türk Dilinin Karşılaştırmalı Sözlüğü" anlamına gelen eserini yazmıştır.

**Bu parçada sözü edilen sanatçı aşağıdakilerden hangisidir?**

- A) Ahmet Yesevi  
B) Yusuf Has Hacip  
C) Yunus Emre  
D) Kaşgarlı Mahmut

17. Aşağıdaki tezkirelerden hangisi Cumhuriyet Dönemi'nde yazılmıştır?

- A) Heşt Behişt  
B) Gülşen-i Şuara  
C) Son Asır Türk Şairleri  
D) Silahtar Tezkiresi

18. Kasidelerde şairin kendisini övdüğü bölümün adı aşağıdakilerden hangisidir?

- A) Girizgâh B) Medhiye  
C) Tegazzül D) Fahriye

19. (I) Dede Korkut Hikâyeleri'nde Oğuz Türklerinin sosyal hayatından, gelenek ve göreneklerinden, yaptıkları savaşlardan bahsedilir. (II) Halkın karakterini ve hayat biçimini yansıtan bu hikâyelerde gelişmiş ve şiirsel bir dil vardır. (III) Bu hikâyelerde tamamen gerçeğe uygun kişi ve olaylar anlatılmaktadır. (IV) Eser, her biri ayrı bir bütün oluşturan 12 hikâyeden oluşur.

**Bu parçada numaralanmış cümlelerin hangisinde bilgi yanlış yapılmıştır?**

- A) I. B) II. C) III. D) IV.

20. Günümüzde "monolog, stand-up" diye adlandırılan tek kişilik oyunların eski edebiyatımızdaki karşılığı aşağıdakilerden hangisidir?

- A) Orta oyunu B) Meddah  
C) Drama D) Komedi

1. Gök sarı, toprak sarı, çıplak ağaçlar sarı;  
Arkada zincirlenen yüksek Toros dağları,  
Önde uzun bir kışın soldurduğu etekler,  
Sonra dönen, dönerken inleyen tekerlekler...

**Bu dizelerin şekil ve içerik özellikleri incelendiğinde aşağıdaki sanatçılardan hangisine ait olduğu söylenir?**

- A) Faruk Nafiz Çamlıbel  
B) Nazım Hikmet Ran  
C) Namık Kemal  
D) Orhan Veli Kanık

2. I. Oktay Rifat içe dönük, maneviyatçı, bireyci şiirin başarılı örneklerini vermiştir.

II. Cahit Külebi, 1940-1950 yıllarında memleket sevgisi, aşk, hasret ve hüznün gibi temalarda lirik şiirler yazmıştır.

III. Behçet Necatigil, şiirlerinde büyük şehrin içinde kaybolmuş insanın kırık, karanlık, karmaşık duygularını yansıtmıştır.

IV. Fazıl Hüsnü Dağlarca, şiirlerinde gerçeküstücü bir üslupla Türk – İslam mistisizmini ifade etmiştir.

**Numaralanmış cümlelerin hangilerinde bilgi yanlış yapılmıştır?**

- A) I ve II. B) I ve IV.  
C) II ve III. D) III ve IV.

3. Aşağıdaki romanlardan hangisi Anadolu köy ve kasaba hayatının acıklı hâllerini gerçekçi bir şekilde anlatır?

- A) Kuyucaklı Yusuf  
B) Fatih - Harbiye  
C) Eylül  
D) Aşk-ı Memnu

4. Aşağıdaki sanatçı – eser eşleştirmelerinden hangisi yanlıştır?

- A) Halide Edip Adıvar – Kalp Ağrısı  
B) Peyami Safa – Fatih - Harbiye  
C) Reşat Nuri Güntekin – İbiş'in Rüyası  
D) Yaşar Kemal – Ölmez Otu

5. Deneme türünün aşağıdaki anlatı türlerinden hangisiyle konu ve içerik yönünden benzerliği vardır?

- A) Mesnevi B) Gezi yazısı  
C) Öykü D) Sohbet

6. Ekonomik yapı ile ahlaki yıkım arasındaki organik bağı gözlemlemiş, bu durumun bireylerin iç dünyasına olan etkisini yakalamış bir tiyatro yazarımızdır. En önemli tiyatro eserleri "Kadınlar Arasında, Atlarla Filler, Yağmur Sıkıntısı"dır.

**Bu parçada tanıtılan sanatçı aşağıdakilerden hangisidir?**

- A) Reşat Nuri Güntekin  
B) Peyami Safa  
C) Melih Cevdet Anday  
D) Oktay Rifat Horozcu

7. Deneme ile ilgili aşağıdakilerden hangisi söylenebilir?

- A) Eskiden bu yazılara "kalem tecrübesi" denirdi.  
B) Bilimsel konulara ağırlık verilir.  
C) Kesin sonuçlara varmak amaçlanır.  
D) Manzum olarak yazılır.

8. Edebiyatı, sanatı kendime dert edinmiş bir adamım. Gece gündüz edebiyat düşünürüm, şiir düşünürüm. Sevdiğim bir şiiri tanıdıklarına okumadığım yahut bir edebiyat sorusu üzerine tartışmaya girişmediğim günleri yaşadım saymam. "Bugün Türkiye'nin önde gelen edebiyatçısı kimdir?" diye sorarlarsa beni gösterebilirsiniz.

**Bir denemeden alınmış bu parçaya göre kendinden bu şekilde söz eden bir kişi için aşağıdakilerden hangisi söylenemez?**

- A) Edebiyat üzerine kafa yormaktadır.  
B) Birçok farklı türde eser vermiştir.  
C) Hayatını sanata adamıştır.  
D) İyi bir edebiyatçı olduğunu düşünmektedir.

9. Tanzimat Dönemi'nde başlayan Türk gazeteciliği, 1908'den sonra önemli ilerlemelere sahne olmuştur. Bu dönemde ----, ---- ve ---- gibi gazeteciler başmakaleleri ile ün kazanmıştır.

**Bu parçada boş bırakılan yerlere aşağıdakilerden hangisi getirilemez?**

- A) Hüseyin Cahit Yalçın  
B) Ahmet Emin Yalman  
C) Asım Us  
D) Nurullah Ataç

# 1. OTURUM

## (418) TÜRK EDEBİYATI – 8

10. I. Yalın bir dil, renkli ve sürükleyici bir anlatım kullanılır.  
II. Gözlem önemli bir yer tutar.  
III. Olağanüstü varlıklara ve olaylara yer verilir.  
IV. Kanıtlayıcı anlatım ön plandadır.  
**Numaralanmış özelliklerden hangileri gezi yazısı türüne ait değildir?**
- A) I ve II. B) I ve III.  
C) II ve IV. D) III ve IV.
11. **Aşağıdakilerden hangisi günümüz gezi yazarlarındanır?**
- A) Reşat Nuri Güntekin  
B) Zeynep Oral  
C) Ahmet Haşim  
D) Cenap Şahabettin
12. **Aşağıdaki sanatçılardan hangisinin anı türünde eseri yoktur?**
- A) Ahmet Rasim  
B) Halit Ziya Uşaklıgil  
C) Yahya Kemal Beyatlı  
D) Mehmet Akif Ersoy
13. **Aşağıdaki eserlerden hangisi tür yönüyle diğerlerinden farklıdır?**
- A) Bir Adam Yaratmak  
B) Balıkesir Muhasebecisi  
C) Tuna Kıyıları  
D) Midas'ın Kulakları
14. **Aşağıdakilerden hangisi Beş Hececilerin özelliklerinden biridir?**
- A) Halk şiiri geleneğinden yararlanarak yurt güzelliklerini dile getiren duygusal şiirler yazmaları  
B) Ölçsüz, uyaksız, şairanelikten uzak yeni bir şiir akımı başlatmaları  
C) İçe dönük, maneviyatçı, bireyci şiirin başarılı örneklerini vermeleri  
D) Günlük konuşma diline, açık söyleyişe karşı çıkmaları
15. Orhan Kemal'in kendi roman ve öykülerinden oyunlaştırdığı eserleri, tiyatromuzda toplumcu gerçekçi yaklaşımın başarılı örnekleri olmuştur.  
**Aşağıdakilerden hangisi bu örneklerden biridir?**
- A) Cem Sultan  
B) Bekçi Murtaza  
C) Hürrem Sultan  
D) Boş Beşik

16. Yirminci yüzyılın son yirmi yılında yazdığı yirmiden fazla oyunuyla se-yirciyi hayata; alışkanlıkların engeline takılmadan yeni bir gözle bakmaya, vicdanları doğrulara açmaya, en çok da körelmiş zekâları bilemeye çalış-mıştır. "Cumhuriyetin Kızı, Maskeli Süvari" önemli tiyatro eserleridir.  
**Bu parçada sözü edilen tiyatro yazarı aşağıdakilerden hangisidir?**
- A) Memet Baydur  
B) Tarık Buğra  
C) Reşat Nuri Güntekin  
D) Aziz Nesin
17. **Aşağıdakilerden hangisi fıkra türü için söylenemez?**
- A) Herhangi bir konuyu belli bir görüş açısından ele alan kısa yazılardır.  
B) Temel amaç, okuyucuyu düşün-meye yönlendirmektir.  
C) Fıkra yazarı görüşlerinin doğrulu-ğunu ispatlamak zorundadır.  
D) Fıkra yazarının geniş bir genel kültüre sahip olması gerekir.
18. **Aşağıdaki romanlardan hangisinin-de mekân olarak Anadolu kullanılmamıştır?**
- A) Kuyucaklı Yusuf  
B) Ankara  
C) Fatih - Harbiye  
D) Çalıkuşu
19. Kimi yazarlar gezi izlenimlerini ara-lıklı olarak dostlarına yazdıkları mek-tuplarda anlatır. Bu çeşit gezi yazıla-rına - - - tarafından yazılan "Avrupa Mektupları" örnek gösterilebilir.  
**Bu cümlede boş bırakılan yere aşağıdakilerden hangisi getirilme-lidir?**
- A) Cenap Şahabettin  
B) Ziya Gökalp  
C) Yahya Kemal Beyatlı  
D) Namık Kemal
20. **Aşağıdakilerden hangisi makale-lerin, konusuna göre türlerinden değildir?**
- A) Edebî B) İktisadi  
C) Askerî D) Psikolojik

1. **Aşağıdakilerden hangisi şiirde ahen-gi sağlayan öğelerden değildir?**
- A) Ölçü B) Uyak  
C) Mısra D) Vurgu
2. Herhangi bir ölçünün kullanılmadığı nazım biçiminin adıdır. Mısralarda hece sayısı eşitliği, hecelerin uzun veya kısa olması gibi özellikler dikka-te alınmadığı için belli bir kalıba bağlı kalmaz. Kafiye kullanmak şairin isteğine bağlıdır.  
**Bu parçada sözü edilen nazım bi-çimi aşağıdakilerden hangisidir?**
- A) Serbest nazım  
B) Mesnevi  
C) Gazel  
D) Türkü
3. **1920'li yılların şiiri için aşağıdaki-lerden hangisi söylenemez?**
- A) Batı'da moda olan fütürist, kübik ve gerçeküstü şiir akımlarının et-kisi görülür.  
B) Şiirde edebî gelenekten kopma gerçekleşmiştir.  
C) Aruz ve heceyi reddeden yeni bir söyleyiş söz konusudur.  
D) Halk şiirinin nazım biçimleri kulla-nılmıştır.
4. **Mehmet Akif Ersoy'un edebî kişili-ği ile ilgili aşağıdakilerden hangisi söylenemez?**
- A) Toplum hayatını anlatmak ve ma-halli bir edebiyat yapmak, sanatı-nın önemli özelliğidir.  
B) Halk şiirinin incelikleriyle Fransız şiirinin yetkinliğini birleştirmiştir.  
C) İslami duyarlılığıyla millî kaygıları-nı dile getirmiştir.  
D) Kuvvetli gözlemleriyle, olayları ve hayat sahnelerini eserlerine yan-sıtmıştır.
5. "Şeyh Bedrettin Destanı", şiirinin dönüm noktası olur. Bu, şairin epik şiirle kendi toprağının kültüründen geniş ölçüde yararlanmaya başla-dığı bir dönemdir. "Kuvayı Milliye Destanı"nda hayata gerçekçi bir açı-dan bakar.  
**Bu parçada hakkında bilgi verilen sanatçı aşağıdakilerden hangisidir?**
- A) Necip Fazıl Kısakürek  
B) Mehmet Akif Ersoy  
C) Nazım Hikmet Ran  
D) Cahit Külebi

# 1. OTURUM

6. Kayan yıldız gibi geceki izden,  
Bakışlar saçılın kirpiğinizden  
Etekler içinde naz eden dizden  
Üzülsün bu deli gönlüm, üzülsün...  
**Bu dizelerle ilgili aşağıdakilerden hangisini söylemek yanlış olur?**

A) 11'li hece ölçüsü ile oluşturulmuştur.  
B) Ek hâlinde redif kullanılmıştır.  
C) Anlam kapalılığına önem verilmiştir.  
D) Halk edebiyatı geleneğinden yararlanılmıştır.

7. **Aşağıdakilerden hangisi toplumcu gerçekçi şairlerden değildir?**

A) Ahmet Arif  
B) Nazım Hikmet Ran  
C) Şükran Kurdakul  
D) Arif Nihat Asya

8. Şiirlerinde insanın evrendeki yerini araştıran; madde ve ruh problemlerini, iç alemin gizli duygu ve tutkularını dile getiren şair yetkin bir dil kullanmıştır. "Kaldırımlar Şairi" olarak anılan sanatçının en çok bilinen şiir kitabı "Çile" dir.

**Bu parçada hakkında bilgi verilen sanatçı aşağıdakilerden hangisidir?**

A) Necip Fazıl Kısakürek  
B) Cahit Sıtkı Tarancı  
C) Ahmet Hamdi Tanpınar  
D) Asaf Halet Çelebi

9. Kurutulmuş bir çiçektiniz sanki, göğünüzü getirdim  
Karşılıklı bakışan sulardan ve en iyisi  
Sırmayla süslenmiş bir eski zaman  
ceketi örttüm  
Üstlerinize  
Isındınız, uyudunuz, ölmediniz gülümsemeyle

**Bu dizeler şekil ve içerik bakımından aşağıdaki şiir anlayışlarından hangisine örnektir?**

A) İkinci Yeni  
B) Serbest nazım ve toplumcu şiir  
C) Millî Edebiyat zevk ve anlayışını sürdüren şiir  
D) Yedi Meşale

10. I. Cahit Külebi  
II. Fazıl Hüsnü Dağlarca  
III. Refik Durbaş  
IV. Oktay Rifat Horozcu

**Numaralanmış sanatçılardan hangileri Garip dışında yeniliği sürdüren şairlerden değildir?**

A) I ve IV. B) II ve III.  
C) II ve IV. D) III ve IV.

11. Birdenbire,  
Birdenbire;  
Her şey birdenbire oldu.  
Kız birdenbire, oğlan birdenbire;  
Yollar, kırlar, kediler, insanlar...  
Aşk birdenbire oldu.  
Sevinç birdenbire.

**Bu dizeler şekil ve içerik bakımından aşağıdaki şiir anlayışlarından hangisine örnektir?**

A) Toplumcu şiir  
B) Öz şiir anlayışını sürdüren şiir  
C) Halk edebiyatı  
D) Garipçiler

12. I. Türk edebiyatında var olan tüm geleneklere karşı çıkmışlardır.  
II. Şiirlerinde süslü ve sanatlı bir anlatım kullanmışlardır.  
III. Öğreticiliğin ön planda olduğu şiirler yazmışlardır.  
IV. Alaycı tutuma, mizahi öğelere şiirlerinde sıkça yer vermişlerdir.

**Numaralanmış ilkelerden hangileri Garipçilerin şiir anlayışlarını yansıtır?**

A) I ve II. B) I ve IV.  
C) II ve III. D) III ve IV.

13. **Aşağıdakilerden hangisi İkinci Yeni şiiri için söylenemez?**

A) Sanat yapmak gayesiyle eser vermiş, aydın kesime seslenmişlerdir.  
B) Şiirde nükte, tekerleme öğelerinin kullanılmamasından vazgeçmişlerdir.  
C) Halk kültüründen uzaklaşma ve yaşadığı topluma yabancılaşma görülür.  
D) İmgeci anlayıştan uzaklaşarak somut şiir anlayışını benimsemişlerdir.

14. **Aşağıdakilerden hangisi İkinci Yeni sonrası toplumcu şairlerdendir?**

A) Süreyya Berfe  
B) Orhan Veli Kanık  
C) Fazıl Hüsnü Dağlarca  
D) Faruk Nafiz Çamlıbel

15. **Aşağıdaki sanatçı - eser eşleştirmelerinden hangisi yanlıştır?**

A) Faruk Nafiz Çamlıbel – Han Duvarları  
B) Cemal Süreya – Şapkam Dolu Çiçekle  
C) Mehmet Akif Ersoy – Huzur  
D) Yahya Kemal Beyatlı – Kendi Gök Kubbemiz

16. **Aşağıdaki sanatçılardan hangisi İkinci Yeni şairlerinden değildir?**

A) Ülkü Tamer  
B) Sezaî Karakoç  
C) Ece Ayhan  
D) Atilla İhan

17. Sanatçı, gerçekçi edebiyatın ilk örneklerinden olan "Karabibik" adlı eseriyle mekânı İstanbul dışına taşımıştır.

**Bu cümlede sözü edilen sanatçı aşağıdakilerden hangisidir?**

A) Nabizade Nazım  
B) Yakup Kadri Karaosmanoğlu  
C) Reşat Nuri Güntekin  
D) Refik Halit Karay

18. Türk hikâye ve romanında toplumcu gerçekçiliğin öncülerinden olan yazar, gözleme dayalı konularını kendi yaşamından almıştır. Betimlemelerindeki ustalık ve ayrıntıları yerinde kullanmasıyla Türk hikâyeciliğine büyük katkı sağlamıştır. Yazarın roman alanında ustalığını kanıtladığı önemli eserlerinden biri de "Kuyucaklı Yusuf"tur.

**Bu parçada sözü edilen sanatçı aşağıdakilerden hangisidir?**

A) Aziz Nesin  
B) Sabahattin Ali  
C) Ömer Seyfettin  
D) Sait Faik Abasıyanık

19. **Aşağıdakilerden hangisi hikâyenin genel özelliklerinden değildir?**

A) Yaşanmış veya yaşanması mümkün olaylar ele alınır.  
B) Serim, düğüm, çözüm bölümlerinden oluşur.  
C) Olay, yer, zaman ve şahıs kadrosu bulunur.  
D) Karakter tahlillerine geniş yer verilir.

20. Peyami Safa'nın birey ruhuna ayna tuttuğu başarılı psikolojik romanıdır. Gönül ilişkileri, hastalık, acılar, sevinçler okura anlatıcı tarafından aktarılır. Romanda olayların insan psikolojisine yansımaları anlatılır.

**Bu parçada tanıtılan roman aşağıdakilerden hangisidir?**

A) Dokuzuncu Hariciye Koşuşu  
B) Zehra  
C) Araba Sevdası  
D) Henüz On Yedi Yaşında

# 1. OTURUM

## (421) FİZİK – 1

1. Aşağıdakilerden hangisi fizik biliminin doğrudan ilgilendiği konular içinde yer almaz?

- A) Lazer B) Atom  
C) Elektrik D) Solunum

2. "30 N'luk kuvvet" ifadesi aşağıdakilerden hangisi ile ilgilidir?

- A) Zaman B) Sıcaklık  
C) Ağırlık D) Hacim

3. Bir tencerede 1 L süt bulunmaktadır. Buna göre tenceredeki süt kaç mililitre (mL)'dir?

- A) 1 B) 10 C) 100 D) 1000

4. x (m)

$X_1 = 2$  m konumundan  $X_2 = 10$  m konumuna hareket eden şekildeki noktasal cismin yer değiştirmesi kaç metredir?

- A) 8 B) 10 C) 12 D) 16

5. Tarihte isimleri örnek verilenlerden;

- I. Aristo  
II. Arşimet  
III. Mehmet Akif Ersoy

hangileri fizik bilimi ile uğraşmıştır?

- A) Yalnız I B) I ve II.  
C) II ve III. D) I, II ve III.

6. Sabit sıcaklık ve basınç altında bir cismin özkütlesi

- I. Özkütle =  $\frac{\text{Kütle}}{\text{Hacim}}$   
II. Özkütle = Hacim  $\cdot$  Kütle  
III. Özkütle =  $\frac{\text{Hacim}}{\text{Kütle}}$

bağıntılarından hangileri ile hesaplanır?

- A) Yalnız I B) Yalnız II  
C) Yalnız III D) I ve II.

7. Aşağıdakilerden hangisi gazların günlük hayatta kullanım alanlarından biri değildir?

- A) Uçan balon B) Mutfak tüpü  
C) LPG'li araçlar D) Dinamometre

8. Kenar uzunluğu 1 cm olan bir küpün dayanıklılığı  $D_1$ 'dir. Bu küpün boyutları 2 katına ve 3 katına çıkarıldığında dayanıklılığı sırasıyla  $D_2$  ve  $D_3$  oluyor.

Buna göre  $D_1$ ,  $D_2$  ve  $D_3$  arasındaki büyüklük ilişkisi nasıl olur?

- A)  $D_1 = D_2 = D_3$  B)  $D_3 > D_2 > D_1$   
C)  $D_1 > D_2 > D_3$  D)  $D_2 > D_3 > D_1$

9. 20 °C sıcaklığında K, L, M ve N sıvılarına ait yüzey gerilimi değerleri tablodaki gibidir.

Sıvı	Yüzey Gerilimi (mili Newton/metre)
K	22,3
L	27,6
M	35,8
N	63

Buna göre özdeş 4 cam parçasına bu sıvılardan ayrı ayrı eşit hacimde damlatıldığında hangisinde daha çok damlanın dağılımıdan bir arada bulunduğu görülür?

- A) K B) L C) M D) N

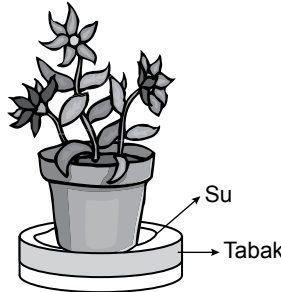
10. Belirli basınç ve sıcaklıkta gazlar;

- I. Çok zor sıkıştırılabilir.  
II. Gazı oluşturan atom yada moleküller öteleme hareketi yapar.  
III. Sabit hacimleri ve belirli bir şekilleri vardır.

ifadelerinden hangileri gazlara ait bir özelliktir?

- A) Yalnız I B) Yalnız II  
C) I ve II. D) I, II ve III.

11. Şekildeki saksının altındaki tabağa bir miktar su dökülüyor.



Saksının altındaki delikten tabağa dökülen su toprak ile temas edip çiçeğin üst kısımlarına ilerleyebiliyor.

Bu olay akışkanların hangi fiziksel olayı ile ilgilidir?

- A) Kılcallık  
B) Adezyon (yapışma)  
C) Kohezyon (tutma)  
D) Yüzey gerilimi

12. Hacmi 2 cm<sup>3</sup> olan K cisminin kütlesi 15,6 g dir.

Buna göre K cisminin özkütlesi kaç g/cm<sup>3</sup> dür?

- A) 7,8 B) 15,6 C) 20,4 D) 31,2

13. Hareket halindeki cisimleri durdurmaya yada durmakta olan cisimlerin harekete geçmesini engellemeye çalışan kuvvet sürtünme kuvvetidir.

Buna göre

- I. Sürtünme kuvveti, cisimler hareket halindeyken veya durgunken de olur.  
II. Durgun haldeki sürtünme kuvveti statik sürtünme kuvveti olarak tanımlanır.  
III. Hareket halindeki sürtünme kuvveti kinetik sürtünme kuvveti olarak tanımlanır.

sürtünme kuvveti ile ilgili verilen ifadelerden hangileri doğrudur?

- A) Yalnız I B) II ve III.  
C) I ve II. D) I, II ve III.

14. Bütün kuvvetler bir etkileşim sonucu oluşur.

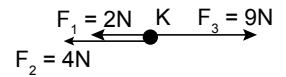
Buna göre

- I. Rüzgarın etkisiyle ağaç dallarının hareket etmesi  
II. Ağaç dalındaki portakalın yere düşmesi  
III. Bir çocuğun oyuncak arabayı iterek sürmesi

Yukarıdaki ifadelerin hangileri temas gerektiren kuvvetlere örnek verilir?

- A) Yalnız I B) I ve III.  
C) II ve III. D) I, II ve III.

15. Aynı doğrultudaki kuvvetler aynı anda şekildeki K cismine etki etmektedir.



Buna göre K cismine etki eden net kuvvetin büyüklüğü kaç Newton'dur?

- A) 2 B) 3 C) 4 D) 15

16. Kütleli 1200 kg olan bir otomobile doğrusal bir yolda 900 N'luk bir kuvvet etki ettiğinde otomobilin ivmesi kaç m/s<sup>2</sup> dir? (Sürtünme kuvveti önemsizdir.)

- A) 0,25 B) 0,50 C) 0,75 D) 1,2

# 1. OTURUM

## (425) FİZİK – 5

17. I. Sabit hızla hareket eden aracın ivmesi - ■ - dir.  
 II. Bir okul çantasının ağırlığı - ▲ - bir büyüklüktür.  
 III. Durmak için frene basılan araç - ● - hareket yapar.

Yukarıdaki boşluklarda (■, ▲, ●) sırasıyla hangi ifadeler yer almalıdır?

	■	▲	●
A)	İvmeli	Sıfır	Vektörel
B)	Sıfır	İvmeli	Vektörel
C)	Sıfır	Vektörel	İvmeli
D)	Vektörel	Sıfır	İvmeli

18. Sürtünme kuvveti ile ilgili aşağıdaki ifadelerden hangisi doğrudur?

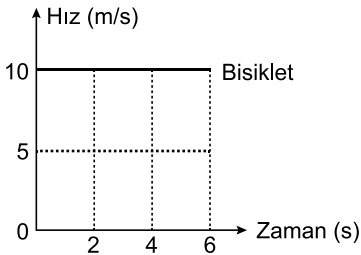
- A) Sürtünme kuvveti sürtünen yüzeylerin cinsine bağlıdır.  
 B) Sürtünme kuvveti sürtünen yüzeylerin alanına bağlıdır.  
 C) Sürtünme kuvveti etki ve tepki kuvveti ile ters orantılıdır.  
 D) Sürtünme kuvveti sürtünen yüzeylerin rengine bağlıdır.

19. Newton'un etki-tepki yasasına göre kuvvetlerle ilgili;

- I. Kuvvetler çift halde bulunur.  
 II. Kuvvet her zaman cisimlerin etkileşmesi sonucu ortaya çıkar.  
 III. Kuvvetler her zaman aynı yönlüdür.
- yargılarından hangileri doğrudur?

- A) Yalnız I      B) I ve II.  
 C) I ve III.      D) I, II ve III.

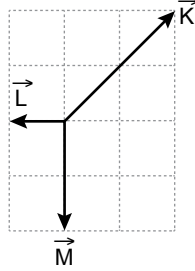
20. Düz bir yolda K noktasından harekete başlayan bir bisikletliye ait hız-zaman grafiği şekildeki gibidir.



Buna göre 6s sonra bisikletli K noktasından kaç metre uzaklıkta olur?

- A) 10    B) 40    C) 60    D) 90

1. Eşit bölmelendirilmiş kareler üzerine çizilen K, L ve M vektörleri şekildeki gibidir.



Buna göre vektörlerin bileşkesi aşağıdakilerin hangisinde doğru verilmiştir?

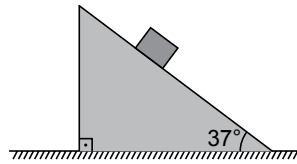
- A)      B)   
 C)      D)

2. Aynı doğrultuda 10 km/h ve 20 km/h hızlarla iki araç birbirlerine doğru hareket etmektedirler.

Araçlar yan yana geldiklerinde araçlardan birinde olan gözlemci diğer aracın süratini kaç km/h olarak görür?

- A) 30    B) 20    C) 10    D) 5

3. Kütleli 10 kg olan bir tahta blok sürtünme katsayısı 0,1 olan şekildeki eğik düzlem üzerine bırakılıyor.



Buna göre blok ile ilgili,

- I. Hareket etmez  
 II. Hızlanarak hareket eder.  
 III. Sabit ivme ile hareket eder.

yargılarından hangileri doğrudur? (sin37°=0,6 cos37°=0,8 g=10m/s<sup>2</sup>)

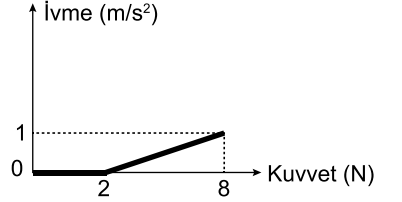
- A) Yalnız I      B) Yalnız II  
 C) Yalnız III      D) II ve III.

4. Akıntı sürati 2 m/s olan bir nehirde, akıntı ile aynı yönde yüzen yüzücünün suya göre sürati 1 m/s dir.

Nehir kenarında duran bir gözlemci yüzücünün süratini kaç m/s olarak görür?

- A) 1    B) 2    C) 3    D) 4

5. Yatay zemin üzerinde duran bir cisme kuvvet uygulandığında kuvvetin ivmeye bağlı grafiği şekildeki gibi çiziliyor.



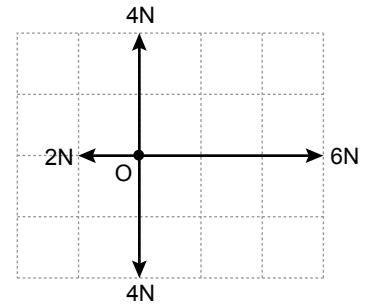
Buna göre

- I. Zemin sürtünmelidir.  
 II. Sürtünme kuvveti 2 N'dur.  
 III. Cisme uygulanan net kuvvet 6 N'dur.

yargılarından hangileri doğrudur?

- A) Yalnız I      B) I ve II  
 C) II ve III      D) I, II ve III

6. Kareli yatay düzlem sistemde O noktasında duran noktasal cisme şekildeki kuvvetler uygulanıyor.



Buna göre cisme etki eden net kuvvet kaç N'dur? (Sürtünme önemsizdir.)

- A) 16    B) 8    C) 4    D) 2

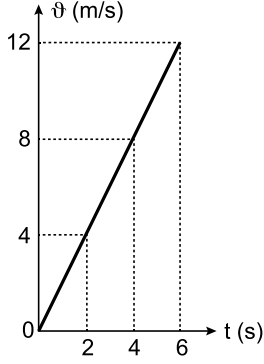
7. Sürtünmenin önemsiz olduğu havasız bir ortamda kütleli m olan bir cisim h yüksekliğinden serbest bırakıldığında a ivmesiyle yere düşüyor.

Aynı ortamda 2m kütleli cisim aynı yükseklikten serbest bırakılırsa kaç a ivmesiyle yere düşerdi?

- A) 1    B) 2    C) 3    D) 4

# 1. OTURUM

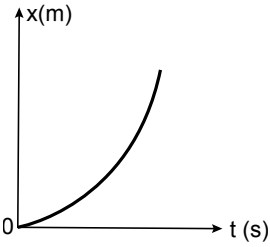
8. Bir hareketliye ait hız-zaman grafiği şekildedir gibidir.



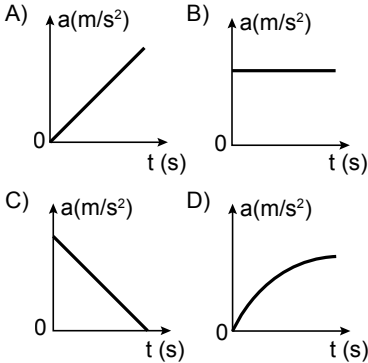
Buna göre hareketlinin 2. saniyedeki ivmesinin 6. saniyedeki ivmesine oranı kaçtır?

- A) 1 B) 2 C) 3 D) 4


9. Bir hareketliye ait konum-zaman grafiği şekildedir gibidir.



Buna göre hareketliye ait ivme-zaman grafiği aşağıdakilerden hangisi gibi olabilir?



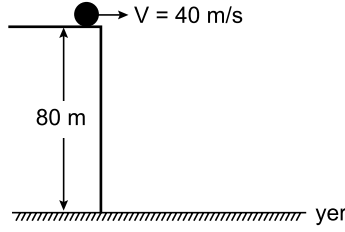
10. Bir cisim yatayla  $53^\circ$  lik açı ile  $50 \text{ m/s}$  lik hızla şekildedir gibi eğik atılıyor.



Buna göre cisim kaç saniyede yere çarpar? ( $\sin 53^\circ = 0,8$ ;  $g=10 \text{ m/s}^2$ )

- A) 4 B) 8 C) 10 D) 12

11. Yüksekliği  $80 \text{ m}$  olan bir yerden, şekildedir gibi yatay olarak  $40 \text{ m/s}$ 'lik ilk hızla atılan bir cisim yatay atış hareketi yapıyor.



Buna göre cismin yere çarpma hızının büyüklüğü nedir? ( $g=10 \text{ m/s}^2$  ve sürtünmeler önemsizdir.)

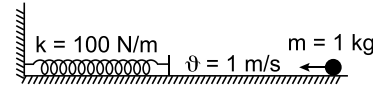
- A)  $80\sqrt{2}$  B) 80  
C) 40 D)  $40\sqrt{2}$

12. Sürtünmenin ihmal edildiği bir yerde  $10 \text{ m}$  yükseklikte duran bir taş parçası yere doğru ilk hızsız bırakılıyor.

Buna göre tam yere çarptığı anda sürati kaç  $\text{m/s}$  olur? ( $g = 10 \text{ m/s}^2$ )

- A) 5 B)  $5\sqrt{2}$   
C) 10 D)  $10\sqrt{2}$

13. Sürtünmenin önemsiz olduğu bir ortamda kütlesi  $1 \text{ kg}$  olan bilyenin hızı  $1 \text{ m/s}$  dir. Bu bilye yay sabiti  $100 \text{ N/m}$  olan yaya şekildedir gibi gönderiliyor.



Buna göre bilye, yayı kaç metre sıkıştırır?

- A) 0,1 B) 1 C) 1,5 D) 2

14. Kütlesi  $0,1 \text{ kg}$  olan bir cisim sürtünmesiz bir ortamda  $45 \text{ m}$  yükseklikten serbest bırakılıyor.

Buna göre cismin yere düşene kadar cisme etki eden itme kaç  $\text{N.s}$  dir? ( $g = 10 \text{ m/s}^2$ )

- A) 1 B) 2 C) 3 D) 4

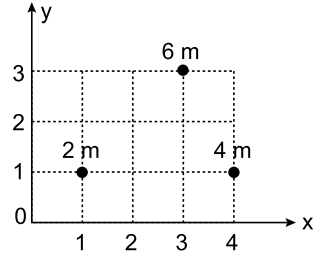
15. Eşit bölmelendirilmiş homojen çubuk şekildedir gibidir.



Buna göre çubuk nereden asılırsa yatay olarak dengede kalır?

- A) L noktasında  
B) L ve M arasında  
C) M noktasında  
D) M ve N arasında

16. Kütleleri  $2 \text{ m}$ ,  $4 \text{ m}$  ve  $6 \text{ m}$  olan noktasal cisimler şekildedir gibi koordinat üzerine yerleştirilmiştir.



Buna göre cisimlerin oluşturduğu sistemin kütle merkezi koordinatları aşağıdakilerin hangisinde doğru verilmiştir?

- A) (3, 1) B) (3, 2)  
C) (3, 3) D) (2, 2)

17. Sürtünmesiz ortamda esnek çarpışma ile ilgili;

I. Çarpışmadan önceki toplam kinetik enerji çarpışmadan sonraki toplam kinetik enerjiye eşittir.

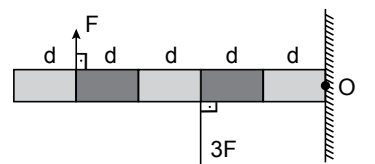
II. Çarpışma esnasında enerji kaybı vardır.

III. Çarpışmada momentum korunur. **yargılarından hangileri doğrudur?**

- A) Yalnız II B) I ve II.  
C) II ve III. D) I ve III.

18. Ağırlığı önemsenmeyen eşit bölmelendirilmiş homojen çubuğun bir bölme uzunluğu  $d$  kadardır.

Çubuk O noktası etrafında döndürülebilmektedir.



Buna göre  $F$  ve  $3F$  kuvvetlerinin O noktasına göre bileşke tork, büyüklüğü kaç  $F.d$  dir?

- A) 2 B) 3 C) 4 D) 5

19. Günlük hayatta kullanılan bazı basit makineler aşağıda verilmiştir.

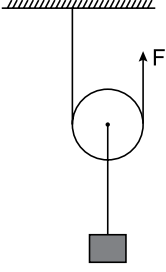
I. Sabit makara  
II. Palanga  
III. Eğik düzlem

Bu basit makinelerden hangileri kullanım amaçlarına göre kesinlikle kuvvet kazancı sağlamaz?

- A) Yalnız I B) Yalnız II  
C) I ve II. D) II ve III.

# 1. OTURUM

20. Sürtünmenin ihmal edildiği bir yerde 10 N ağırlığındaki makara ile 40 N ağırlığındaki yük şeklindeki F kuvveti ile dengededir.



F kuvvetinin uygulandığı ip sabit hızla 2m çekildiğine göre hareketli makaranın verimi % kaçtır?

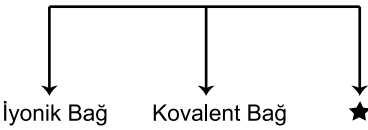
- A) 50 B) 60 C) 80 D) 90

## (432) KİMYA – 2

1. Aşağıda verilen madde / kimyasal tür eşleştirmelerinden hangisi yanlıştır?

	Madde	Kimyasal Tür
A)	H <sub>2</sub> O	Molekül
B)	Fe	Atom
C)	O <sub>2</sub>	Atom
D)	NH <sub>3</sub>	Molekül

2. Kimyasal Türler Arası Güçlü Etkileşimler



Yukarıda verilen şemada ★ ile gösterilen yere aşağıdakilerden hangisi yazılmalıdır?

- A) Hidrojen bağı  
B) Metalik bağı  
C) London kuvvetleri  
D) Dipol-dipol etkileşimi

3. I. <sup>8</sup>O  
II. <sup>11</sup>Na  
III. <sup>12</sup>Mg  
IV. <sup>16</sup>S

Yukarıda verilen atomlardan hangi ikisi arasında kovalent bağı oluşur?

- A) I ve II. B) I ve IV.  
C) II ve III. D) III ve IV.

4. CO<sub>2</sub> molekülünün Lewis elektron nokta formülü aşağıdakilerin hangisinde doğru gösterilmiştir? (<sub>6</sub>C, <sub>8</sub>O)

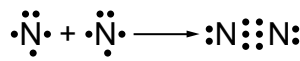
- A) :Ö::C::Ö: B) Ö:C:Ö:  
C) :Ö:C:Ö: D) ·Ö::C::Ö·

5.  $\text{H}-\text{Cl} \xrightarrow{\text{a}} \text{H}-\text{Cl} \xrightarrow{\text{b}}$

Yukarıdaki şekilde a ve b ile gösterilen kimyasal etkileşim türleri aşağıdakilerden hangisidir? (<sub>1</sub>H, <sub>17</sub>Cl)

- | a                       | b                      |
|-------------------------|------------------------|
| A) Polar kovalent bağı  | Hidrojen bağı          |
| B) Apolar kovalent bağı | Apolar kovalent bağı   |
| C) Apolar kovalent bağı | Polar kovalent bağı    |
| D) Polar kovalent bağı  | Dipol-dipol etkileşimi |

6. N<sub>2</sub> molekülünün oluşumuna ilişkin Lewis gösterimi aşağıdaki gibidir.



Buna göre:

- I. Azot molekülü apolardır.  
II. Azot atomları arasında polar kovalent bağı oluşmuştur.  
III. Azot atomları arasında üç elektron çifti ortaklaşa kullanılmıştır.

bilgilerinden hangileri doğrudur? (<sub>7</sub>N)

- A) Yalnız I B) I ve III.  
C) II ve III. D) I, II ve III.

- 7.

	Örnek	Fiziksel Değişim	Kimyasal Değişim
I	Demirin paslanması	✓	
II	Buzun erimesi	✓	
III	Kömürün yanması		✓
IV	Şekerin suda çözünmesi	✓	

Yukarıdaki tabloda bazı fiziksel / kimyasal değişim örnekleri verilmiştir.

Buna göre verilen örneklerden hangisi yanlıştır?

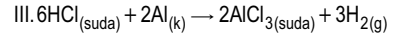
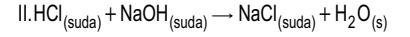
- A) I B) II C) III D) IV

8. "Magnezyum metalinin yeteri kadar oksijen gazı ile yanması sonucu magnezyum oksit katısı oluşur."

Bu yanma olayında gerçekleşen tepkimenin denklemini aşağıdakilerden hangisidir? (<sub>8</sub>O, <sub>12</sub>Mg)

- A) Mg(k) + 2O<sub>2</sub>(g) → MgO<sub>2</sub>(k)  
B) Mg(k) + O(g) → MgO(k)  
C) Mg(k) + O<sub>2</sub>(g) → MgO<sub>2</sub>(k)  
D) Mg(k) +  $\frac{1}{2}$ O<sub>2</sub>(g) → MgO(k)

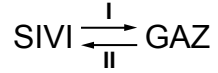
9. I. N<sub>2</sub>(g) + 3H<sub>2</sub>(g) → 2NH<sub>3</sub>(g)



Yukarıdaki tepkimelerden hangileri asit-baz tepkimesidir?

- A) Yalnız II B) I ve II.  
C) I ve III. D) II ve III.

10. Aşağıda maddenin sıvı ve gaz halleri arasındaki geçişler numaralarla gösterilmiştir.



Buna göre I ve II ile gösterilen yerlere hangileri yazılmalıdır?

- | I             | II         |
|---------------|------------|
| A) Yoğuşma    | Buharlaşma |
| B) Donma      | Erime      |
| C) Buharlaşma | Yoğuşma    |
| D) Erime      | Donma      |

11. T(K) = t(°C) + ----

Verilen sıcaklık dönüşümünde boş bırakılan yere (----) aşağıdakilerden hangisi yazılmalıdır?

- A) 0 B) 32 C) 127 D) 273

12. 6,02.10<sup>23</sup> tane O<sub>2</sub> molekülü kaç moldür?

- A) 2 B) 1 C) 0,5 D) 0,1

13. Sabit hacimli bir kaptan 200 K sıcaklıkta belirli miktardaki bir gazın basıncı 3 atm'dir. Gazın sıcaklığı 600 K'e çıkarıldığında basıncı kaç atm olur?

- A) 9 B) 6 C) 4 D) 1

# 1. OTURUM

14. I. Kükürt oksitler  
II. Azot oksitler  
III. Kloroflorokarbonlar  
**Verilenlerden hangileri atmosferi kirleten gazlardır?**

A) Yalnız III B) I ve II.  
C) II ve III. D) I, II ve III.

15. "Civada ....I.... kuvvetleri çok güçlü olduğu için, civa cam yüzeylerde damla oluşturur ve yüzeyi .....II...."

**Yukarıdaki cümlede I ve II ile gösterilen yerlere aşağıdakilerden hangisi yazılmalıdır?**

<u>I</u>	<u>II</u>
A) Kohezyon	Islatır
B) Adezyon	Islatmaz
C) Kohezyon	Islatmaz
D) Adezyon	Islatır

16. Yollardaki asfalt çalışmalarının sıcak asfalt (zift) ile yapılmasının sebebi aşağıdakilerden hangisidir?

A) Sıcak asfaltın viskozitesi fazladır.  
B) Sıcak asfaltın vizkositesi azdır.  
C) Sıcak asfaltın akmaya karşı gösterdiği direnç fazladır.  
D) Sıcak asfaltın molekülleri arasındaki çekim kuvveti fazladır.

17. "Coğrafi bir bölgenin deniz seviyesinden yüksekliğinin metre cinsinden ifadesine rakım denir."

**Rakım değerleri;**

Erzurum>Kayseri>Ankara>Çanakkale şeklinde olan şehirlerde, özdeş kaplarda bulunan aynı miktardaki sular, özdeş ısıtıcılar kullanılarak aynı anda ısıtılmaya başlanıyor.

**Buna göre; bu şehirlerden hangisindeki su daha önce kaynamaya başlar?**

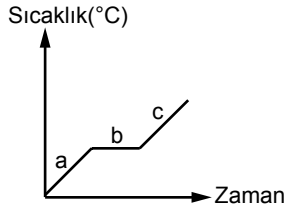
A) Çanakkale B) Ankara  
C) Kayseri D) Erzurum

18. "Bir bölgede ölçülen hava sıcaklığı 38°C iken, hissedilen sıcaklık 42°C'tur."

**Buna göre, hissedilen sıcaklığın daha yüksek olmasının nedeni aşağıdakilerden hangisidir?**

A) Bölgedeki rüzgârın hızı yüksektir.  
B) Havanın bağıl nem oranı yüksektir.  
C) Bölgedeki rüzgârın hızı düşüktür.  
D) Havanın bağıl nem oranı düşüktür.

19. Aşağıda fiziksel hali bilinmeyen saf bir maddeye ait sıcaklık- zaman grafiği verilmiştir.



Buna göre bu saf madde:

I. a bölgesinde katı hâlinde olabilir.  
II. b bölgesinde sıvı hâlinde olabilir.  
III. c bölgesinde gaz hâlinde olabilir.

**İfadelerinden hangileri doğrudur?**

A) Yalnız II B) I ve II.  
C) I ve III. D) I, II ve III.

20. Aşağıda kristal katı türlerine verilen örneklerden hangisi yanlıştır?

	Kristal katı türü	Örnek
A)	İyonik	Yemek tuzu
B)	Metalik	Çinko
C)	Kovalent	Elmas
D)	Moleküler	Cam

## (436) KİMYA – 6

1. I.  $C_2H_5OH \rightarrow$  Polar  
II.  $KCl \rightarrow$  İyonik  
III.  $C_6H_6 \rightarrow$  Apolar  
IV.  $I_2 \rightarrow$  Apolar

**Verilen maddelerden hangileri saf suda iyi çözünür?**

A) Yalnız II B) I ve II.  
C) II ve III. D) III ve IV.

2. 800 gram su örneğinde 8 mg  $Na^+$  iyonu olduğu belirleniyor.

**Buna göre su örneğinin derişimi kaç ppm'dir?**

A) 0,1 B) 1 C) 10 D) 100

3. Derişimi 4 M olan 400 mL  $H_2SO_4$  çözeltisine 1200 mL su ilave edilirse çözeltinin derişimi kaç M olur?

A) 16 B) 12 C) 3 D) 1

4. 0,5 mol şekerin ( $C_6H_{12}O_6$ ) 1 kg suda çözünmesiyle oluşan çözelti, 1 atm basınçta kaç °C'ta kaynamaya başlar?  
(Su için  $K_k = 0,52^\circ C/m$ )

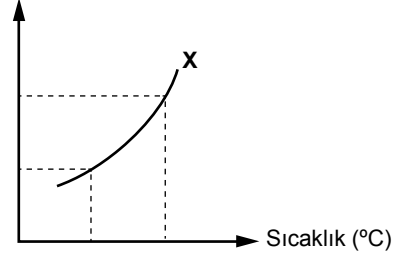
A) 97,4 B) 99,74  
C) 100,26 D) 102,6

5. 20°C'ta NaCl tuzunun çözünürlüğü 36g/100g su'dur.

**Buna göre 20°C'ta 400 g suda en fazla kaç gram NaCl tuzu çözünür?**

A) 144 B) 180  
C) 256 D) 544

6. Çözünürlük (g/100g su)



**X maddesine ait çözünürlük-sıcaklık grafiğine göre aşağıdakilerden hangisi yanlıştır?**

A) X maddesi gazdır.  
B) Çözünme endotermiktir.  
C) Sıcaklık arttıkça X maddesinin çözünürlüğü artmıştır.  
D) X maddesi çözünürken ortamdan ısı enerjisi almıştır.

7. İçinde sıcak su bulunan;

I. Ağzı açık bardak  
II. Ağzı kapalı şişe  
III. Termos

**kaplarından hangileri izole sisteme örnektir?**

A) Yalnız I B) Yalnız III  
C) I ve II. D) II ve III.

8. Termodinamiğin birinci yasasına göre "evrendeki toplam enerji sabittir."

**Bu yasanın formülle ifadesi aşağıdakilerin hangisinde doğru verilmiştir?**

A)  $\Delta U_{\text{sistem}} - \Delta U_{\text{çevre}} = 0$   
B)  $\Delta U_{\text{sistem}} + \Delta U_{\text{çevre}} = 1$   
C)  $\Delta U_{\text{sistem}} - \Delta U_{\text{çevre}} = 1$   
D)  $\Delta U_{\text{sistem}} + \Delta U_{\text{çevre}} = 0$



# 1. OTURUM

9.  $2\text{HCl}_{(g)} + 184 \text{ kJ} \rightarrow \text{H}_{2(g)} + \text{Cl}_{2(g)}$   
tepkimesi ile ilgili verilen aşağıdaki bilgilerden hangisi yanlıştır?

- A) Tepkime endotermiktir.  
B) 184 kJ'lük enerji, sistemden çevreye verilmiştir.  
C) Sabit basınçta tepkime entalpisi +184 kJ'dür.  
D) Tepkimenin gerçekleşmesi için 184 kJ'lük enerjiye ihtiyaç vardır.

10.  $\text{CH}_{4(g)} + 2\text{O}_{2(g)} \rightarrow \text{CO}_{2(g)} + 2\text{H}_2\text{O}_{(s)}$   
tepkimesinin standart koşullarda entalpi değişimi kaç kJ/mol'dür?

$$\begin{aligned} \Delta H_{\text{CH}_4(g)}^\circ &= -74,8 \text{ kJ/mol}, \\ \Delta H_{\text{CO}_2(g)}^\circ &= -393,5 \text{ kJ/mol}, \\ \Delta H_{\text{H}_2\text{O}(s)}^\circ &= -285,8 \text{ kJ/mol} \end{aligned}$$

- A) -890,3      B) -754,1  
C) +754,1      D) +890,3

11.  $\text{H}_{2(g)} + \frac{1}{2}\text{O}_{2(g)} \rightarrow \text{H}_2\text{O}_{(s)}$  tepkimesinin  $\Delta H^\circ$  değeri -285,8 kJ/mol olduğuna göre:

$2\text{H}_2\text{O}_{(s)} \rightarrow 2\text{H}_{2(g)} + \text{O}_{2(g)}$   
tepkimesinin  $\Delta H^\circ$  değeri kaç kJ/mol'dür?

- A) -571,6      B) -142,9  
C) 142,9      D) 571,6

12. I.  $\text{N}_{2(g)} + 3\text{H}_{2(g)} \rightarrow 2\text{NH}_{3(g)}$   
II.  $2\text{SO}_{2(g)} + \text{O}_{2(g)} \rightarrow 2\text{SO}_{3(g)}$   
III.  $\text{N}_2\text{O}_{4(g)} \rightarrow 2\text{NO}_{2(g)}$

Yukarıdaki dönüşümlerin hangilerinde entropi azalır?

- A) Yalnız II      B) Yalnız III  
C) I ve II.      D) I ve III.

13.  $\text{PCl}_{5(g)} \rightarrow \text{PCl}_{3(g)} + \text{Cl}_{2(g)}$   
tepkimesinin hız bağıntısı aşağıdakilerden hangisinde doğru olarak yazılmıştır? (v=tepkime hızı)

- A)  $v = k$   
B)  $v = k \cdot [\text{PCl}_5]$   
C)  $v = k \cdot [\text{PCl}_3][\text{Cl}_2]$   
D)  $v = k \cdot \frac{[\text{PCl}_3][\text{Cl}_2]}{[\text{PCl}_5]}$

14.  $2\text{PbS}_{(k)} + 3\text{O}_{2(g)} \rightarrow 2\text{PbO}_{(k)} + 2\text{SO}_{2(g)}$   
tepkimesinin derecesi aşağıdakilerden hangisinde doğru verilmiştir?

- A) 5      B) 4      C) 3      D) 2

15. 1. Basamak:  
 $\text{N}_2\text{O}_{(g)} \rightarrow \text{N}_{2(g)} + \text{O}_{(g)}$  (Yavaş)

2. Basamak:  
 $\text{N}_2\text{O}_{(g)} + \text{O}_{(g)} \rightarrow \text{N}_{2(g)} + \text{O}_{2(g)}$  (Hızlı)

Mekanizmalı bir tepkimenin basamakları yukarıda verilmiştir.

Buna göre:

- I. Tepkimedede ara ürün vardır.  
II. Tepkimedede katalizör kullanılmamıştır.  
III. Tepkimenin hız bağıntısı yavaş basamağa göre yazılır.

bilgilerinden hangileri doğrudur?

- A) Yalnız II      B) I ve II.  
C) II ve III.      D) I, II ve III.

16. Aşağıda verilen denge tepkimelerinden hangisi için denge bağıntısı kısmi basınçlar türünden yazılabılır?

- A)  $\text{N}_{2(g)} + 3\text{H}_{2(g)} \rightleftharpoons 2\text{NH}_{3(g)}$   
B)  $\text{HCN}_{(suda)} \rightleftharpoons \text{H}^+_{(suda)} + \text{CN}^-_{(suda)}$   
C)  $\text{Cu}_{(k)} + 2\text{Ag}^+_{(suda)} \rightleftharpoons \text{Cu}^{2+}_{(suda)} + 2\text{Ag}_{(k)}$   
D)  $\text{H}_2\text{O}_{(s)} + \text{HCOO}^-_{(suda)} \rightleftharpoons \text{HCOOH}_{(suda)} + \text{OH}^-_{(suda)}$

17.  $\text{CaCO}_{3(k)} \rightleftharpoons \text{CaO}_{(k)} + \text{CO}_{2(g)}$   
tepkimesinin denge bağıntısı aşağıdakilerden hangisinde doğru verilmiştir?

- A)  $K_c = \frac{[\text{CaO}][\text{CO}_2]}{[\text{CaCO}_3]}$   
B)  $K_c = [\text{CaO}][\text{CO}_2]$   
C)  $K_c = [\text{CaCO}_3]$   
D)  $K_c = [\text{CO}_2]$

18. 25°C'ta  $1.10^{-2} \text{ M HCl}$  sulu çözeltisi için verilen:

- I.  $[\text{Cl}^-] = [\text{H}_3\text{O}^+] = 1.10^{-2} \text{ M}$ 'dir.  
II.  $[\text{OH}^-] = 1.10^{-12} \text{ M}$ 'dir.  
III.  $\text{pOH} = 2$  dir.

bilgilerinden hangileri doğrudur?

- A) Yalnız I      B) I ve II.  
C) II ve III.      D) I, II ve III.

19. HF maddesinin sudaki iyonlaşma dengesi:  
 $\text{HF}_{(suda)} + \text{H}_2\text{O}_{(suda)} \rightleftharpoons \text{F}^-_{(suda)} + \text{H}_3\text{O}^+_{(suda)}$   
şeklinde dir.

Buna göre aşağıda verilen bilgilerden hangisi yanlıştır?

- A) HF maddesi,  $\text{F}^-$  iyonunun konjuge asididir.  
B)  $\text{H}_2\text{O}$  maddesi,  $\text{H}_3\text{O}^+$  iyonunun konjuge bazıdır.  
C)  $\text{F}^-$  iyonu, HF maddesinin konjuge asididir.  
D)  $\text{H}_3\text{O}^+$  iyonu,  $\text{H}_2\text{O}$  maddesinin konjuge asididir.

20. 25°C'ta  $\text{Ca}(\text{OH})_2$  katısının sudaki çözünürlüğü  $1.10^{-2} \text{ mol/L}$  olduğuna göre aynı sıcaklıktaki  $\text{Ca}(\text{OH})_2$  katısının  $K_{çç}$  değeri aşağıdakilerden hangisidir?

- A)  $4 \cdot 10^{-6}$       B)  $2 \cdot 10^{-6}$   
C)  $2 \cdot 10^{-4}$       D)  $1 \cdot 10^{-4}$

## (441) BİYOLOJİ – 1

1. Bilim insanları;

- I. Ön yargıdan uzak ve tarafsız olmalıdır.  
II. Çalışmaları için en uygun yöntemi belirleyebilmelidir.  
III. Akılcı ve gerçekçi olmalıdır.

verilen özelliklerden hangilerini taşımaktadır?

- A) Yalnız I      B) I ve II.  
C) I ve III.      D) I, II ve III.

2. Aşağıdakilerden hangisi nitel gözlem örneğidir?

- A) Bugün hava sıcaktır.  
B) Sınıf duvarının boyu 6 metredir.  
C) Ahmet'in kütlesi 45 kilogramdır.  
D) Ocak ayında 1 metrekareye 15 kg yağış düşmüştür.

3. Bitkilerin büyümesine karbondioksitin etkisini araştıran bir öğrenci, hazırladığı bitkilere aynı miktarda gübre ve su vermekte fakat bitkileri değişik oranlarda karbondioksit içeren ortamlarda tutmaktadır.

Bu öğrencinin yaptığı deneyde bağımsız değişken aşağıdakilerden hangisidir?

- A) Su  
B) Toprak  
C) Karbondioksit  
D) Bitkilerin büyüme oranı

# 1. OTURUM

4. Aşağıdakilerden hangisi biyolojinin alt bilim dallarından biri olan moleküler biyoloji ve genetik çalışma alanının konularından birisidir?

- A) Suç teşkil eden adli olayları aydınlatacak incelemeler yapmak.  
B) İnsan vücudunda kullanılan hormon ve antibiyotiklerin üretilmesini sağlamak.  
C) Sucul ortamlardaki canlıların sınıflandırmasını yapmak.  
D) Biyolojik çeşitliliğin korunması için çözümler üretmek.

5. Aşağıdakilerden hangisi sadece cansız varlıklarda görülen bir özelliktir?

- A) Çoğalamazlar.  
B) Kütleleri vardır.  
C) Hacimleri vardır.  
D) Belli şekil ve büyüklükleri vardır.

6. I. Doku  
II. Organ  
III. Hücre  
IV. Molekül  
V. Organel

Yukarıda verilen yapı ve organizasyon birimlerinin küçükten büyüğe sıralanışı nasıl olmalıdır?

- A) I – II – III – IV – V  
B) IV – I – V – III – II  
C) II – I – IV – V – III  
D) IV – V – III – I – II

7. Aşağıdakilerden hangisi diğerlerinden farklı bir beslenme tipidir?

- A) Herbivor  
B) Omnivor  
C) Karnivor  
D) Ototrof

8. Su moleküllerinin birbirinden kopmadan bir arada kalmaları özelliğine kohezyon adı verilir.

Aşağıdaki olaylardan hangisinin meydana gelmesinde suyun bu özelliğinden yararlanır?

- A) Mineral maddelerin taşınması  
B) Vücut ısısının düzenlenmesi  
C) Sıcaklığın dengelenmesi ve korunması  
D) Metabolizma artıklarının seyreltilmesi

9. • Hemoglobin ve bazı pigmentlerin yapısına katılır.  
• Solunum gazlarına bağlanarak taşınmasında etkili olur.  
• Bitkilerde klorofil sentezinde etkilidir.

Verilen özellikleri taşıyan mineral madde aşağıdakilerden hangisidir?

- A) Fosfor (P)  
B) Demir (Fe)  
C) Kalsiyum (Ca)  
D) Magnezyum (Mg)

10. Enerji açığa çıkaran reaksiyonlar ekzergonik reaksiyonlardır.

Buna göre aşağıdakilerden hangisi ekzergonik reaksiyonlara örnek gösterilebilir?

- A) Sinirsel iletim  
B) Kas kasılması  
C) Oksijenli solunum  
D) Biyosentez reaksiyonları

11. Selüloz molekülüyle ilgili;

- I. Suda çözünmez.  
II. Azotlu polisakarittir.  
III. Düz zincirli bir moleküldür.  
IV. Bitkilerde hücre çeperinin yapısına katılır.

İfadelerinden hangileri doğrudur?

- A) I ve II. B) I, II ve IV.  
C) I, III ve IV. D) I, II, III ve IV.

12. I. Fosfat grubu içeren bir baş ve buna bağlı iki yağ asidinden meydana gelirler.  
II. Suda fosfat grubu çözünürken, yağ asitleri çözünmez.  
III. Fosfat grupları suyla temas edecek şekilde zarın iç ve dış yüzeyine dizilir.

Yukarıda verilenlerden hangileri fosfolipitler ile ilgili doğru bir bilgidir?

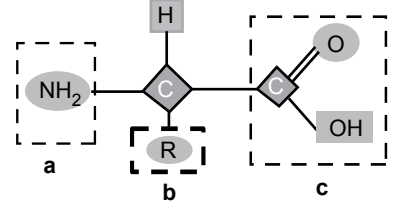
- A) Yalnız I B) I ve III.  
C) II ve III. D) I, II ve III.

13. I. Bileşik enzimlerdeki protein kısma apoenzim denir.  
II. Yardımcı kısım mineral ise kofaktör olarak isimlendirilir.  
III. Yardımcı kısım protein kısma göre daha büyüktür.

Yukarıdakilerden hangileri bileşik enzimlerin özelliklerindedir?

- A) Yalnız I B) I ve II.  
C) II ve III. D) I, II ve III.

14. Aşağıda bir amino asidin basit şekli verilmiştir.



Buna göre harflerle gösterilen kısımların doğru isimlendirilmesi nasıl olmalıdır?

	a	b	c
A)	Amin grubu	Radikal grup	Karboksil grubu
B)	Radikal grup	Karboksil grubu	Amin grubu
C)	Amin grubu	Karboksil grubu	Radikal grup
D)	Karboksil grubu	Amin grubu	Radikal grup

15. Enzimlerle ilgili verilen ifadelerden hangisi yanlıştır?

- A) Enzim miktarı arttıkça reaksiyon hızı artar.  
B) Ortam sıcaklığının 0°C'ye düşmesi enzim yapısını bozar.  
C) Enzimlerin çalıştığı en uygun sıcaklığa optimum sıcaklık denir.  
D) Ortamdaki su miktarı % 15'in altına düşünce enzimler çalışamaz.

16. I. Genç bitki hücrelerinde koful çok sayıda fakat küçüktür.  
II. Yaşlı bitki hücrelerinde merkezi kofula dönüşür.  
III. Endoplazmik retikulum, golgi, hücre ve çekirdek zarından meydana gelebilirler.

Yukarıdakilerden hangileri kofulun özelliklerindedir?

- A) Yalnız I B) I ve II.  
C) II ve III. D) I, II ve III.

17. Aşağıda verilenlerden hangisi RNA (Ribonükleik asit)'nin yapı ve özelliklerinden biri değildir?

- A) Kendini eşleyebilir.  
B) Tek zincirden oluşur.  
C) Protein sentezinde görev alır.  
D) Yapısında riboz şekeri bulunur.

18. Hücre içi sindirimde görevli organel aşağıdakilerden hangisidir?

- A) Koful  
B) Ribozom  
C) Lizozom  
D) Golgi aygıtı

## 1. OTURUM

19. Aşağıdakilerden hangisi difüzyon hızını etkileyen faktörlerle ilgili yanlış bir ifadedir?

- A) Sıcaklık arttıkça difüzyon hızı artar.
- B) Por sayısı arttıkça difüzyon hızı artar.
- C) İyonlar, nötr moleküllere göre daha hızlı difüzyona uğrarlar.
- D) Molekül büyüklüğü arttıkça difüzyon hızı azalır.

20. I. Aktin proteininin üst üste sarmal şekilde dizilmesiyle oluşur.  
II. Hücre içinde oluşup ayrışabilme özellikleri yoktur.  
III. Hücre bölünmesi sırasında sitoplazma boşumlanmasını sağlarlar.

Yukarıda verilen özelliklerden hangileri hücre iskeleti elemanı olan mikrofilamentler için doğrudur?

- A) Yalnız I
- B) I ve III.
- C) II ve III.
- D) I, II ve III.

### (443) BİYOLOJİ – 3

1. Hücre döngüsünün kontrolünün bozulması hangi hastalığın ortaya çıkmasına neden olur?

- A) Grip
- B) Verem
- C) Kanser
- D) Renk körlüğü

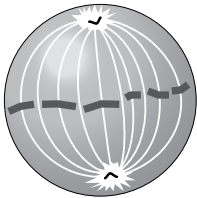
2. Aşağıda hücre döngüsünde gerçekleşen değişiklikler ile ilgili bilgiler verilmiştir.

- Hücrenin büyüklüğü artar.
- Hücrede protein sentezi hızlanır.
- DNA kendini eşler.

Bu değişiklikler hücre döngüsünün hangi aşamasında meydana gelir?

- A) Profaz
- B) İnterfaz
- C) Anafaz
- D) Metafaz

3. Aşağıda hayvansal bir hücrede mitoz bölünme ile ilgili şekil verilmiştir.



Şekildeki hücre mitoz bölünmenin hangi evresindedir?

- A) Profaz
- B) Telofaz
- C) Anafaz
- D) Metafaz

4. Bir hücreden sekiz yeni hücrenin oluştuğu periyotta kaç bölünme gerçekleşmiştir?

- A) 1
- B) 2
- C) 3
- D) 4

5. Bölünmekte olan bir hücrenin geçirdiği mitoz bölünme evrelerinin sıralaması aşağıdakilerden hangisinde doğru verilmiştir?

- A) Profaz – Metafaz – Anafaz – Telofaz
- B) Anafaz – Telofaz – Profaz – Metafaz
- C) Metafaz – Profaz – Telofaz – Anafaz
- D) Telofaz – Metafaz – Anafaz – Profaz

6. Bazı hayvanların yumurta hücrelerinden döllenme olmadan yeni bireyler geliştirmesi şeklindeki üremeye partenogenez adı verilir.

Aşağıda verilen canlıların hangisinde partenogenez gözlenir?

- A) Bal arısı
- B) Örümcek
- C) Deniz yıldızı
- D) Toprak solucanı

7. Aşağıda verilen eşeysiz üreme çeşitlerinden hangisi sadece bitkilerde görülür?

- A) Sporla
- B) Vejetatif
- C) Bölünerek
- D) Rejenerasyon

8. I. Kromozom sayısı yarıya iner.  
II. Haploid (n) kromozomlu hücrelerde görülmez.  
III. Kalıtsal çeşitlilik sağlanır.

Buna göre verilen özelliklerden hangileri mayoz bölünmeye aittir?

- A) Yalnız I
- B) I ve II.
- C) II ve III.
- D) I, II ve III.

9. Mayoz bölünmenin profaz I evresinde meydana gelen olaylarla ilgili aşağıdaki bilgilerden hangisi yanlıştır?

- A) Homolog kromozomlar yan yana gelerek dört kromatitli tetradları oluşturur.
- B) Mayoz geçiren hücredeki tetrad sayısı, diploit (2n) kromozom sayısı kadardır.
- C) Kiyazma bölgelerinde homolog kromozomlar arasında parça alışverişi gerçekleşir.
- D) Tetradların kardeş olmayan kromatitlerinin birbiri üstüne çaprazlaması ile kiyazma noktalarını oluşturur.

10. Erkek bireylerin testislerinde sperm oluşturulmasına spermatogenez denir. Spermatogenezde oluşan aşağıdaki hücrelerden hangisinin kromozom sayısı diğerlerinden farklıdır?

- A) Sperm
- B) Spermatit
- C) Spermatogonium
- D) İkincil spermatosit

11. İnsan üreme sisteminde oogenez ve spermatogenezle oluşan sperm ve yumurtayla ilgili aşağıdaki bilgiler verilmiştir.

- I. Mayoz bölünme ile oluşurlar.
- II. Kromozom sayısı haploid (n)'dir.
- III. Hareketli hücrelerdir.

Verilenlerden hangileri yumurta ve sperm hücreleri için ortaktır?

- A) I ve II.
- B) I ve III.
- C) II ve III.
- D) I, II ve III.

12. I. Rahim ile yumurtalık arasında yer alır.  
II. Yumurtanın hareketini sağlayan siller mevcuttur.  
III. Yumurtanın döllenmesi bu kısımda gerçekleşir.

Verilenlerden hangileri yumurta kanalının (fallop tüpü) özelliklerindedir?

- A) Yalnız I
- B) I ve II.
- C) I ve III.
- D) I, II ve III.

13. Dişi üreme sisteminde ovulasyonun gerçekleşmesini sağlayan hormon aşağıdakilerden hangisidir?

- A) LH
- B) LTH
- C) Östrojen
- D) Progesteron

14. Aşağıdakilerden hangisi döl yatağının iç kısmında mukus salgılayan ve bol miktarda kan damarı içeren tabakadır?

- A) Ovaryum
- B) Serviks
- C) Endometriyum
- D) Korpus luteum

15. Sperm hücresinde sindirim enzimlerini taşıyan kısım aşağıdakilerden hangisidir?

- A) Boyun
- B) Kuyruk
- C) Akrozom
- D) Çekirdek

## 1. OTURUM

16. Sperm ana hücrelerinin mayoz bölünme geçirdiği erkek üreme sistemi kısmı aşağıdakilerden hangisidir?

- A) Semifer tüpleri  
B) Epididimis  
C) Prostat bezi  
D) Sperm kanalı

17. Kan ve cinsel ilişki ile bulaşarak karaciğer dokusunu oluşturan hücrelerin fonksiyonlarını bozan hastalık aşağıdakilerden hangisidir?

- A) HPV  
B) AIDS  
C) Frengi  
D) Hepatit B

18. Bir kuş yumurtasında embriyonun ihtiyaç duyduğu besinler aşağıdaki yapıların hangisinde depo edilir?

- A) Amniyon  
B) Koriyon  
C) Allantoyis  
D) Vitellus kesesi

19. Hamilelik döneminde kromozom anormalliklerin araştırılmasında kullanılan yöntem aşağıdakilerden hangisidir?

- A) Ultrason  
B) Organogenez  
C) Amniosentez  
D) Aile planlaması

20. • Embriyonun gaz alışverişinde görevlidir.  
• Plasentalı memeliler dışındaki canlılarda atıkları depo eder.  
• Plasentalı memelilerde göbek bağıının oluşumuna katılır.

Verilen özellikler embriyonik yapılardan hangisine aittir?

- A) Koriyon  
B) Allantoyis  
C) Amniyon  
D) Vitellus kesesi

### (446) BİYOLOJİ – 6

1. İnsan iskelet sistemine ait aşağıdaki yapılardan hangisi sadece uzun kemiklerde bulunur?

- A) Periost  
B) Sarı kemik iliği  
C) Kırmızı kemik iliği  
D) Süngerimsi kemik doku

2. Aşağıda insana ait bir çizgili kas şematize edilmiştir.



Şekil I

Şekil II

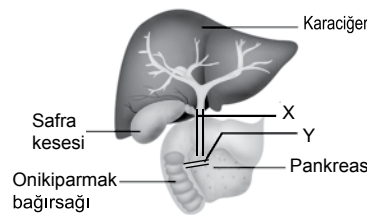
Buna göre çizgili kasın I numaralı durumdan II numaralı duruma geçmesi sırasında aşağıdaki değişimlerden hangisi gözlenmez?

- A) H bandının kısalması  
B) Sarkomerin boyunun kısalması  
C) I bandının kısalması  
D) A bandının kısalması

3. Karaciğerin görevleri ile ilgili aşağıdaki ifadelerden hangisi yanlıştır?

- A) Yaşlanan alyuvarları parçalama  
B) Kanın damar içerisinde pıhtılaşmasını engelleyen heparin üretme  
C) Provitamin D'den D vitamini sentezleme  
D) Proteinlerin metabolizması sonucu açığa çıkan ve zehirli olan amonyağı üreye dönüştürme

4. Aşağıda sindirime yardımcı organlar şematize edilmiştir.



Buna göre X (karaciğerden çıkan kanal) ve Y (pankreasın çıkan kanal) ile ilgili;

- I. X koledok, Y wirsung kanalıdır.  
II. X ile on iki parmak bağırsağına gelen safra, yağların kimyasal sindirimini sağlar.  
III. Y'den bikarbonat iyonları, amilaz, lipaz, nükleaz, tripsinojen, kimotripsinojen gibi enzimler taşınır.

İfadelerinden hangileri doğrudur?

- A) Yalnız I  
B) I ve III.  
C) II ve III.  
D) I, II ve III.

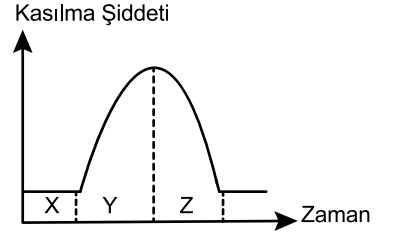
5. Aşağıda sindirim sistemi ile ilgili bazı yapılar numaralandırılarak verilmiştir.

- I. Karaciğer üstü toplardamarı  
II. Kapı toplardamarı  
III. Alt ana toplardamar  
IV. Sağ kulakçık

Karbonhidrat ağırlıklı besinlerle beslenen bir insanda sindirim sonucunda açığa çıkan monomerlerin ince bağırsaktan geri emilmesiyle başlayan yol hangi seçenekte doğru olarak verilmiştir?

- A) I – II – III – IV  
B) II – I – III – IV  
C) III – II – IV – I  
D) IV – II – I – III

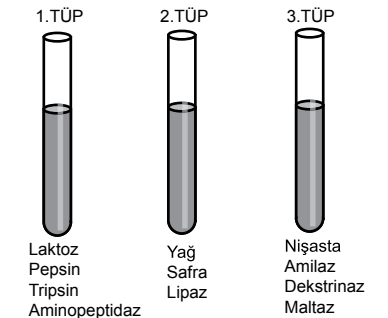
6. Aşağıda bir çizgili kasa uyarı verilmesi ile meydana gelen kasılma şiddeti grafiklenmiştir.



Buna göre X, Y ve Z ile gösterilen zaman dilimlerinin hangisi kasılma evresidir?

- A) Yalnız X  
B) Yalnız Y  
C) Yalnız Z  
D) X ve Y

7. Aşağıda sindirim olayını gözlemek için yapılan bir deney düzeneği şematize edilmiştir.



Verilen koşullar haricindeki diğer tüm koşullar optimum (en uygun değer) ise numaralandırılmış tüplerden hangilerinde monomere rastlanmaz?

- A) Yalnız I  
B) Yalnız III  
C) I ve II.  
D) II ve III.

# 1. OTURUM

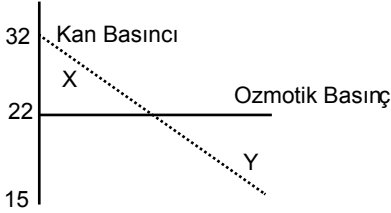
8. Aşağıda verilen maddelerden hangisi kimyasal sindirimde görev almadığı ve sindirim kanalında bulunmadığı halde sindirimi düzenler?

A) Gastrin B) Amilaz  
C) Dipeptidaz D) Lipaz

9. Aşağıda dolaşım sistemine ait yapılardan hangisinde oksijen bakımından zengin, karbondioksit bakımından fakir kan bulunur?

A) Sağ kulakçık  
B) Kapı toplardamarı  
C) Akciğer toplardamarı  
D) Sağ karıncık

10. Aşağıda bir doku kılcındaki kan basıncı ve kanın osmotik basıncının değişimi grafiklenmiştir.



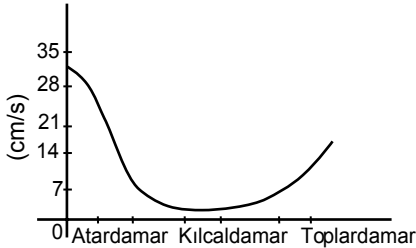
Buna göre,

- I. X aralığında damardan doku sıvısına madde çıkışı gözlenir.  
II. Y aralığında damara giren madde miktarı, X aralığında damardan çıkan madde miktarından azdır.  
III. Her iki aralıkta da gerçekleşen madde alışverişi sırasında enerji harcanmaz.

Yorumlarından hangileri doğrudur?

A) I ve II. B) I ve III.  
C) II ve III. D) I, II ve III.

11. Aşağıda atardamardan toplardamara doğru gidildikçe değişen bir özellik grafiklenmiştir.



Buna göre grafiklenen bu özellik aşağıdakilerden hangisidir?

A) Kanın osmotik basıncı  
B) Kanın akış hızı  
C) Toplam damar çapı  
D) Kan basıncı

12. Alyuvarında A ve B antijenlerini taşıyan fakat kan plazmasında antikor bulunmayan bir kişinin kan grubu aşağıdakilerden hangisidir?

A) A B) B C) AB D) O

13. Solunum gazlarının taşınması sırasında gerçekleşen bazı olaylar numaralandırılarak verilmiştir.

I.  $Hb + O_2 \rightarrow HbO_2$   
II.  $HbO_2 \rightarrow Hb + O_2$   
III.  $Hb + CO_2 \rightarrow HbCO_2$   
IV.  $CO_2 + H_2O \rightarrow H_2CO_3$   
V.  $H^+ + HCO_3^- \rightarrow H_2CO_3$

Buna göre olaylarından hangileri doku kılcalarında gerçekleşir?

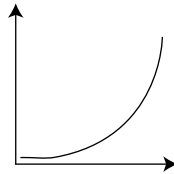
A) I, II ve III. B) II, III ve IV.  
C) I, III ve V. D) II, IV ve V.

14. Aşağıda verilen faktörlerden hangisi solunum hızını artırmaz?

A) Kandaki karbondioksit miktarının artması  
B) Kandaki adrenalin miktarının artması  
C) Kan pH değerinin azalması  
D) Kandaki oksijen miktarının azalması

15. Aşağıda bir damardan geçmekte olan kandaki oksihemoglobin ( $HbO_2$ ) konsantrasyonu verilmiştir.

$HbO_2$  konsantrasyonu



Buna göre bu değişimin gerçekleştiği damar aşağıdakilerden hangisidir?

A) Böbrek kılcığı  
B) Karaciğer kılcığı  
C) Alveol kılcığı  
D) Beyin kılcığı

16. Nefronlarda (böbrek birimleri) idrar oluşumu sırasında gerçekleşen,

I. süzülme,  
II. geri emilim,  
III. salgılama

olaylarından hangilerinde nefron kanallarından kana madde geçişi gerçekleşir?

A) Yalnız II B) Yalnız III  
C) I ve III. D) II ve III.

17. Uzun süre susuz kalan bir kişide aşağıda verilen durumlardan hangisi gerçekleşmez?

A) ADH (vazopressin) miktarı artar.  
B) Kanın osmotik basıncı artar.  
C) İdrarla dışarı atılan su miktarı artar.  
D) Böbreklerden suyun geri emilimi artar.

18. Aşağıdakilerden hangisi içgüdüsel bir davranıştır?

A) Yeni doğan bebeklerin biberonu emmesi  
B) Aşırı ışıktaki göz bebeğinin küçülmesi  
C) Örümceklerin ağ örmesi  
D) Diz kapağına vurulduğunda diz kapağının sekmesi

19. I. Çizgili kas  
II. Kalp kası  
III. Düz kas

Yukarıda verilen kas çeşitlerinden hangileri isteğimiz dışında (istem-siz) çalışır?

A) Yalnız I B) I ve II.  
C) II ve III. D) I, II ve III.

20. Yabani hayatta insanları gördüklerinde kaçan birçok hayvan türü, hayvanat bahçeleri ve şehirlerde insan gördüklerinde aynı hareketi göstermezler (insanlardan kaçmazlar).

Yukarıda anlatılan durum hangi öğrenme şekli ile açıklanabilir?

A) Alışma yolu ile  
B) İzlenim yolu ile  
C) Birleşik öğrenme (koşullanma) yolu ile  
D) İçgörü (kavrama) yolu ile

(461) EKONOMİ – 1

1. Ekonomide fiyat artış hızının yavaşlatılması, fiyatlarda az çok uzun bir süre içinde büyük oranlı değişmelerin önlenmesi, aşağıda verilen ekonomi politikasının başlıca hedeflerinden hangisiyle ilgilidir?

A) Tam İstihdam  
B) Ekonomik Denge  
C) Hakça Gelir Dağılımı  
D) Ekonomik Büyüme ve Kalkınma

# 1. OTURUM

2. Devletin, bazı malların ithal ve ihracını yasaklayan önlemleri, ekonomi politikasının hangi vasıtaları olarak adlandırılır?

- A) Yönlendirici
- B) Nicelik Belirleyen
- C) Nitelik Belirleyen
- D) Emredici

3. Aşağıda verilen açıklamalardan hangisi tümdengelim yetersizliklerinden biri değildir?

- A) Olaylarla olan ilimiz kesilebilir.
- B) Bizi gözlemden yoksun bırakabilir.
- C) Somut şartlar üzerinden olayları inceler.
- D) Gerçeğe uygunluk kontrolü yapmamıza engel olabilir.

4. İnsanların siyah-beyaz televizyon yerine renkli televizyonu seçmeleri aşağıda verilen ihtiyaç yasalarından hangisine bir örnek teşkil eder?

- A) İhtiyaçların miktarı sınırsızdır.
- B) İhtiyaçlar birbirine rakiptir.
- C) Bazı ihtiyaçların kapasiteleri sınırlıdır.
- D) İhtiyaçlar değişmektedir.

5. Aşağıdakilerden hangisi kültürel mal olarak kabul edilir?

- A) Su
- B) Elbise
- C) Ekmek
- D) Televizyon

6. Servet ile ilgili verilen bilgilerden hangisi yanlıştır?

- A) Servet görecelidir.
- B) Servet bir miktardır.
- C) Toplam olarak ifade edilir.
- D) Servetin göstergesi sadece paradır.

7. Aşağıda verilenlerden hangisi "Üretim Değer Meydana Getirmek" görüşüne aykırı bir açıklamadır?

- A) Faaliyet süresince malın şekli değişir.
- B) Madde yerine başka bir madde geçer.
- C) Eski maddelerin değerleri daha büyük olur.
- D) Faaliyet sonunda malın değeri artar.

8. Pamuğun yeterli ölçüde üretildiği bölge ve ülkelerde tekstil endüstrisi de gelişir.

Verilen açıklama, hangi üretim faktörünün etkisi ile ilgilidir?

- A) Doğa
- B) Emek
- C) Sermaye
- D) Girişimci

9. Aşağıdakilerden hangisi birinci enerji kaynakları arasında yer almaz?

- A) Doğal gaz
- B) Biogaz
- C) Nükleer enerji
- D) Rüzgâr enerjisi

10. Aşağıdaki açıklamaların hangisinde bir emek vardır?

- A) Dağ sporu yapmak
- B) Otomobil kullanmak
- C) Bir şoförün faaliyetleri
- D) Zevk için kürek çekmek

11. Kanunla oluşturulan tekele ne ad verilir?

- A) Özel tekel
- B) İdari tekel
- C) Yasal tekel
- D) Fıllı tekel

12. Maden rantını ortaya çıkaran asıl etken aşağıdakilerden hangisidir?

- A) Büyüklük
- B) Kalite
- C) Fiyat
- D) Maliyet

13. Faiz oranlarının yüksek olması durumunda aşağıdakilerden hangisinin görülme olasılığı artar?

- A) Ekonomik gelişmenin hızlanması
- B) İş alanlarının artması
- C) Yatırımların kısılması
- D) İşsizliğin azalması

14. Türkiye'de millî gelir hesaplamaları 1927 yılında hangi yöntemle başlamıştır?

- A) Harcama
- B) Tahmini
- C) Üretim
- D) Gelir

15. Kişilerin millî gelirin oluşumuna katılmasının karşılığı olarak aldığı ve ekonomik gücünü artırdığı para veya para ile ifade edilebilen değerlere ne denir?

- A) Gelir
- B) Ücret
- C) Rant
- D) Kâr

16. I. Ücret  
II. Rant  
III. Faiz  
IV. Kâr

Yukarıdakilerden hangileri millî geliri oluşturan gelirlerdendir?

- A) I ve IV.
- B) II ve III.
- C) I, II ve IV.
- D) I, II, III ve IV.

17. Aşağıdaki tanımlardan hangisi mübadeleyi ifade etmektedir?

- A) Malların insanlar arasında el değiştirmesidir.
- B) Mal ve hizmetlerin elde edilmesi faaliyetidir.
- C) İhtiyaçların karşılanması için malların tüketilmesidir.
- D) Üretim faaliyeti sonucu elde edilen gelirin dağıtımıdır.

18. Hazine bonusu ya da tahvilinin üzerinde yazan faiz oranına ne denir?

- A) Serbest faiz
- B) Nominal faiz
- C) Yasal faiz
- D) Reel faiz

19. Aşağıdakilerden hangisi ödemeler dengesinde yer alan değerlerden biri değildir?

- A) Kamu giderleri
- B) İhracat gelirleri
- C) Turizm gelirleri
- D) İthalat giderleri

20. Aşağıdakilerden hangisi enflasyonun nedenlerinden biridir?

- A) Faiz oranlarının düşmesi
- B) Ürün maliyetlerinin azalması
- C) Dolaşımdaki para miktarının artması
- D) Mal ve hizmet üretiminin artması

(465) TEMEL DİNİ BİL. – 1

1. Tanrının varlığının ya da yokluğunun bilinemeyeceğini öngören bir inançtır. Tüm dinleri ve dolayısıyla onların tanrılarını kesin olarak reddeder. Bu inanca sahip kimseler, görülebilen ardındaki hakikatin yakalanamayacağını savunurlar.

Hakkında bilgi verilen inanç biçimi aşağıdakilerden hangisidir?

- A) Politeizm
- B) Gnostizm
- C) Agnostizm
- D) Ateizm

# 1. OTURUM

## 2. Aşağıdaki din tanımlarından hangisi İslam âlimlerine aittir?

- A) Tabiatüstü varlıklarla kurulan ilişkidir.  
B) İnsanın Allah tarafından kuşatıldığıdır.  
C) İnsan hayatına anlam kazandıran, değerler hiyerarşisinde ona yol gösteren, anlamı insanı hem aşan hem de içine alan kutsal bir düzene inanmaktır.  
D) Akıl sahibi insanları, özgür iradeleriyle dünyada iyiye, doğruya, güzele; ahirette ise ebedi mutluluğa ulaştırmayı amaçlayan ilahi kanunlar bütünüdür.

3. Dinlerin ifade ettiği biçimde, evreni yaratan ve yasalarını belirleyen, irade sahibi olan, her şeyi yapma, bilme ve görme kudretinde olan, insanlara hayatı bahşeden bir varlığa inanmayan bununla birlikte peygamberi ve ahiret inançlarını da kabul etmeyen kişidir.

**Bu düşünceye sahip bir kimse aşağıdakilerden hangisiyle isimlendirilir?**

- A) Politeist B) Gnostist  
C) Agnostist D) Ateist

4. I. Din, toplumsal dayanışmayı sağlar.  
II. Din, insanın kendine güvenini artırır.  
III. Din, insanları ortak bir paydada birleştirir.  
IV. Din, bireyin yeryüzündeki anlam arayışına cevap verir.

**Bunlardan hangileri dinin bireysel yararlarındandır?**

- A) I ve III. B) II ve IV.  
C) II ve III. D) III ve IV.

## 5. Aşağıdaki kavramlardan hangisi yanlış tanımlanmıştır?

- A) Fetiş: Mana gücüne sahip olan yerlerin ve kişilerin dokunulmazlığıdır.  
B) Şaman: Mana gücüne sahip ruhlarla bağlantı kuran ve ayinleri yöneten kişidir.  
C) Totem: Kabilelerin kan bağı ile bağlı olduğuna inandıkları hayvan, bitki veya cansız varlıklardır.  
D) Mana: Kabile tarafından önemli kabul edilen varlıklarda veya kişilerde olduğuna inanılan gizemli güçtür.

6. Çin'in en eski dinlerindedir. Kurucusu Lao Tzu' dur. Din adamlarına rahip denir. Bu dine göre insan raks ve sarhoşlukla vecde ulaşabilir.

**Hakkında bilgi verilen din aşağıdakilerden hangisidir?**

- A) Konfüçyanizm  
B) Taoizm  
C) Şintoizm  
D) Budizm

## 7. Uzakdoğu dinlerinde önemli bir yeri olan "Karma" kavramının tanımını aşağıdakilerden hangisidir?

- A) Tanrının insan vücudunda bedenlenmesidir.  
B) İnsanın en yüce varlığa ulaşması için yaptığı tüm davranışlardır.  
C) Evrenin yenileme ve telafi etmeye yarayan bir denge ortaya çıkarma gücüdür.  
D) Kişinin hayatında yaptığı, düşündüğü, hissettiği bütün davranışların sonucunda ölümden sonra dünyaya tekrar gelmesidir.

## 8. İsrail'in Sur'a üflemesiyle başlayan, dirilme ve hesap gibi merhalelerden oluşan, ölümsüz bir hayatı ifade eden kavram aşağıdakilerden hangisidir?

- A) Berzah B) Ahiret  
C) Kabir D) Maşher

9. • Kutsal kitabı Tripitaka'dır.  
• Hinduizm'deki kast sistemine bir tepki olarak doğmuştur.  
• Hayattaki acı, ızdırap ve tatminsizliğin kaynaklarını açıklayan ve bunların giderilmesinin yollarını gösteren bir inançtır.

**Hakkında bilgi verilen din aşağıdakilerden hangisidir?**

- A) Budizm B) Konfüçyanizm  
C) Sihizm D) Taoizm

10. "... Ol der, o da olur."  
(Yasin suresi, 82. ayet)

**Bu ayet Allah'ın subuti sıfatlarından hangisine işaret eder?**

- A) Hayat B) Basar  
C) Tekvin D) İlim

## 11. Aşağıdakilerden hangisi Hz. İsa'nın getirdiği dine verilen isimlerden değildir?

- A) Hristiyanlık B) İsevilik  
C) Nasranilik D) İbranicilik

12. Bir dinde veya inançta bulunan ve inanılması gereken konulara şüpheye yer vermeyecek bir şekilde inanmaktır.

**Tanımı yapılan kavram aşağıdakilerden hangisidir?**

- A) İman B) Şehadet  
C) Ahlak D) İbadet

## 13. Aşağıdakilerden hangisi Yahudiliğin sembolüdür?

- A) Aslan başlı ejderha  
B) Altı köşeli yıldız  
C) Altın kadeh  
D) Hilal

14. I. Caynizm  
II. Budizm  
III. Şintoizm  
IV. Hristiyanlık

**Numaralanmış dinlerden hangileri milli dinlerdendir?**

- A) I ve II. B) II ve IV.  
C) I ve III. D) III ve IV.

## 15. "Allah'ın yarattıklarına benzememesi" anlamına gelen zati sıfatı aşağıdakilerden hangisidir?

- A) Kıdem  
B) Vahdaniyet  
C) Kıyam bi nefsihi  
D) Muhalefetün lil havadis

## 16. Aşağıdakilerden hangisi namazın vaciplerindedir?

- A) Fatiha'dan sonra gizlice amin demek  
B) Namazın sonunda sağa ve sola selam vermek  
C) Farz olan namazlar için ezan ve kamet getirmek  
D) İftitah tekbirini alırken elleri yukarıya kaldırmak

17. I. Cuma namazı  
II. Vitir namazı  
III. Cenaze namazı  
IV. Teravih namazı

**Numaralanmış namazlardan farz olanlar hangisinde birlikte verilmiştir?**

- A) I ve III. B) I ve IV.  
C) II ve III. D) II ve IV.

# 1. OTURUM

18. Beş vakit namazın farzlarının toplamı kaç rekâttir?

- A) 15 B) 17 C) 20 D) 27

19. "Ey iman edenler! Sizden öncekilere oruç farz kılındığı gibi size de farz kılındı..."

(Bakara suresi, 183. ayet)

**Bu ayetten oruç ile ilgili aşağıdaki bilgilerden hangisine ulaşılabılır?**

- A) Sabırlı olmayı öğretir.  
B) Beden ile yapılan bir ibadettir.  
C) Ramazan ayında farz kılınmıştır.  
D) İslam'dan önce de farz olan bir ibadettir.

20. İslam'da bir kimsenin zekât vermekle mükellef olması için sahip olması gereken mal veya paranın miktarını ifade eden kavram aşağıdakilerden hangisidir?

- A) Mehir B) Fidyeye  
C) Nisab D) Fitre

## (477) İŞLETME – 2

1. Özel işletmelerin kamu işletmelerinden farklı olan amacı aşağıdakilerden hangisidir?

- A) Verimli olmak  
B) Kâr elde etmek  
C) İstihdamı sürekli kılmak  
D) Mal veya hizmet üretmek

2. Aşağıdakilerden hangisi kamu işletmelerinin özelliklerinden değildir?

- A) Sermayelerinin devlete ait olması  
B) Asıl amaçlarının tekel oluşturmak olması  
C) Kamu yönetimine doğrudan ya da dolaylı olarak bağlı olması  
D) Özel yasalarla kurulup özel hukuk kurallarına göre işletiliyor olması

3. Aşağıdakilerden hangisi üretim yapan bir endüstri işletmesidir?

- A) Demir çelik fabrikası  
B) Ticaret işletmesi  
C) Banka  
D) Okul

4. Bir işletmedeki başlıca birimleri, bunlar arasındaki karşılıklı ilişkileri ve işi yürütmekle görevli olanları aşağıdakilerden hangisi gösterir?

- A) İşletme bütçesi  
B) Teşkilat şeması  
C) Kâr/zarar tablosu  
D) İşletme bilançosu

5. Aşağıdakilerden hangisi sermaye şirketlerinin şahıs işletmelerine göre olumlu yönlerindedir?

- A) Faaliyetlerin gizli olması  
B) Kurulmasının kolay olması  
C) Yetkilerin bir kişide toplanmış olması  
D) Yönetimin belli bir sisteme bağlı olması

6. İnsan ihtiyaçlarını karşılamak üzere, ekonomik mal ve hizmet üretmek için faaliyette bulunan kuruluşlara ne denir?

- A) Fabrika B) İşletme  
C) Dükkân D) Büro

7. İşletme Hizmet  
I. Banka Finans  
II. Okul Konaklama  
III. Otel Eğitim  
IV. Hastane Sağlık

**Yukarıdaki işletme hizmet eşleştirmelerinden hangisi/hangileri doğrudur?**

- A) Yalnız I B) II ve III.  
C) I ve IV. D) II, III ve IV.

8. Aşağıdakilerden hangisi dayanıklı mallara örnek olur?

- A) Fırın B) Konserve  
C) Makarna D) Kâğıt

9. Aşağıdakilerden hangisi işletme yöneticilerinde olması gereken özelliklere göre yanlıştır?

- A) Personelinin çalışmalarından haberdar olması  
B) Çalışanlarının işle ilgili görüşlerini alması  
C) Sorumluluk almaya hazır olması  
D) Yetki almaktan kaçınılması

10. Kamu kuruluşları bünyesinde faaliyette bulunan kreşlerin kurulma amaçları, işletmelerin hangi amacına örnek olur?

- A) Kâr elde etmek  
B) İşsizliği azaltmak  
C) Mal ve hizmet üretmek  
D) Toplumla hizmet etmek

11. İşletme yönetiminin organizasyon işlevinde son olarak aşağıdakilerden hangisi yapılır?

- A) Yapılacak işlerin belirlenmesi  
B) Yetki ve sorumlulukların belirlenmesi  
C) İşleri yapacak kişilerin göreve atanması  
D) Çalışma yerleri, kullanılacak araç ve yöntemlerin seçilmesi

12. İşletmelerin çalışanlarını memnun etmek ve onların daha verimli olmalarını sağlamak için aşağıdakilerden hangisini yapmaları etkili olur?

- A) Toplumla hizmet etmek  
B) Çalışanlarına iyi ücret ödemek  
C) Kaliteli mal ve hizmet üretmek  
D) Tüketicileri doğru bilgilendirmek

13. Aşağıdakilerden hangisi işletmelerin çalışanlarına karşı olan sorumluluklarından biridir?

- A) Vergi ödeme  
B) Çevreyi kirletmemek  
C) İş güvenliğini sağlama  
D) Kaliteli mal ve hizmet üretme

14. Bir işletmenin kurulması ve işletilmesi için gerekli paranın sağlanması hangi işletme fonksiyonu ile yerine getirilir?

- A) Finansman B) Pazarlama  
C) Üretim D) Yönetim

15. Hiyerarşik denetimde işletme yöneticisi aşağıdaki kişilerden hangisini denetleyebilir?

- A) İşletme ortaklarını  
B) Üst kademe yöneticisini  
C) İşletmenin genel müdürünü  
D) Alt kademesinde çalışanlarını



# 1. OTURUM

16. Aşağıdakilerden hangisi şahıs işletmelerinin özelliklerinden biridir?

- A) Büyüme yeteneği sonsuzdur.  
B) Yönetim belli bir sisteme bağlıdır.  
C) İşletmede yetkiler bir kişide toplanır.  
D) İşletmeden alacaklı olanlara karşı sorumlulukları sınırlıdır.

17. I. Gerekli kredileri sağlama

- II. Mal ve hizmetleri üretme  
III. Ticari faaliyetleri kaydetme  
IV. Satışları artırmak için reklam yapma

Yukarıdakilerden hangileri işletmenin pazarlama fonksiyonu kapsamında yerine getirilir?

- A) Yalnız I B) Yalnız IV  
C) II ve III. D) III ve IV.

18. Yönetimin planlamadan sonra gelen işlevi aşağıdakilerden hangisidir?

- A) Denetim  
B) Sevk ve idare  
C) Organizasyon  
D) Koordinasyon

19. İşletmelerde bilinen organizasyon kurallarının uygulanmaması veya gözden kaçırılması sonucu aşağıdakilerden hangisi oluşur?

- A) Tam örgütlenme  
B) Aşırı örgütlenme  
C) Eksik örgütlenme  
D) Yeniden örgütlenme

20. Aşağıdakilerden hangisi işletmelerin başlıca işlevlerinden biri değildir?

- A) Tüketim B) Üretim  
C) Pazarlama D) Finansman

## (479) MANTIK – 2

1. Tikel evetleme önerme eklemine sembolü aşağıdakilerden hangisidir?

- A)  $\Leftrightarrow$  B)  $\Rightarrow$  C)  $\vee$  D)  $\wedge$

2.  $\sim [(p \Leftrightarrow q) \wedge (p \Rightarrow r)]$  önermesinin ana eklemi aşağıdakilerden hangisidir?

- A)  $\Leftrightarrow$  B)  $\sim$  C)  $\Rightarrow$  D)  $\wedge$

3.

p	q	$p \Rightarrow q$
D	D	I
D	Y	Y
Y	D	II
Y	Y	D

Yukarıdaki doğruluk tablosunda I ve II ile gösterilen yerlere hangi doğruluk değerleri getirilmelidir?

- A)  $\frac{I}{Y} \quad \frac{II}{Y}$   
B) Y D  
C) D Y  
D) D D

4. "Dürüst davranırsan insanlar seni sever." önermesinin sembolleştirilmiş hali aşağıdakilerden hangisidir?

- A)  $p \Rightarrow q$  B)  $p \wedge q$   
C)  $p \vee q$  D)  $p \Leftrightarrow q$

5. " $(p \wedge q)$ " şeklinde sembolleştirilen önerme aşağıdakilerden hangisidir?

- A) Çalışkansa başarır.  
B) Aylin ve Alev çalışkandır.  
C) Aylin çalışırsa Alev de çalışır.  
D) Ancak ve ancak Aylin çalışırsa Alev de çalışır.

6. Bir doğruluk değeri tablosunda satır sayısı  $2^n$  formülü ile bulunur. Burada "n" bileşen sayısını gösterir. Örneğin; "p" gibi tek bir basit önermenin doğru ve yanlış olmak üzere iki yorumlaması olur.

Buna göre "p" ve "q" önermelerinden oluşan bir bileşik önermenin kaç yorumlaması olur?

- A) Üç B) Altı  
C) Dört D) Sekiz

7.

p	q	$p \vee q$	$(p \vee q) \wedge p$
D	D	D	D
D	Y	D	D
Y	D	D	Y
Y	Y	Y	Y

Yukarıdaki tabloya göre  $(p \vee q) \wedge p$  önermesi için hangisi doğrudur?

- A) Tutarlı bir önermedir.  
B) Geçerli bir önermedir.  
C) Eşdeğer bir önermedir.  
D) Totolojik bir önermedir.

8.  $(p \wedge q)$  önermesinin çözümlenici çizelgedeki çözümleme kuralı aşağıdakilerden hangisidir?

- A)  $(p \wedge q)$  B)  $(p \wedge q)$   
 $\begin{array}{c} \wedge \\ p \quad q \end{array}$   $\begin{array}{c} \sim p \\ \wedge \\ q \end{array}$

- C)  $(p \wedge q)$  D)  $(p \wedge q)$   
 $\begin{array}{c} \wedge \\ \sim p \quad \sim q \end{array}$   $\begin{array}{c} p \\ \wedge \\ q \end{array}$

9.  $p \Rightarrow q$  önermesinin eş değeri aşağıdakilerden hangisidir?

- A)  $p \vee \sim q$  B)  $p \wedge \sim q$   
C)  $\sim p \vee \sim q$  D)  $\sim p \vee q$

10. Aşağıdakilerden hangisi "Ela çirkin değildir." önermesinin nicelene mantığındaki sembolik ifadesidir?

- A) Fa B) Fab  
C)  $\sim Fa$  D)  $\sim Fab$

11. I.  $y+4$

- II. x öğretmendir.  
III. Handan güzeldir.

Yukarıdaki örneklerden hangileri açık önermedir?

- A) Yalnız I B) I ve II.  
C) II ve III. D) I, II ve III.

12. "x (x madendir.)" açık önermesi aşağıdaki evrenlerden hangisinde doğrudur?

- A)  $E=\{\text{altın, gümüş, krom}\}$   
B)  $E=\{\text{kedi, aslan, yılan}\}$   
C)  $E=\{\text{Elif, Emel, Ece}\}$   
D)  $E=\{\text{lale, gül, sümbül}\}$

13. "Herkes değerlidir." önermesinin nicelene mantığındaki ifadesi aşağıdakilerden hangisidir?

- A)  $\sim \forall xFx$  B)  $\forall xFx$   
C)  $\sim \exists xFx$  D)  $\exists xFx$

14. Kiplik mantığında, zorunlu eklemi ile kurulan önermelere zorunlu önerme, mümkün eklemi ile kurulan önermelere de mümkün önerme denir.

Buna göre aşağıdakilerden hangisi zorunlu önermedir?

- A)  $\sim p$  B)  $\diamond p$  C)  $\therefore p$  D)  $\square p$

# 1. OTURUM

## (484) SAĞLIK BİLGİSİ – 2

15. Önermelerin ikiden fazla değere sahip olabileceklerini kabul eden mantık sistemi aşağıdakilerden hangisidir?

- A) Kiplik mantığı
- B) Varlık mantığı
- C) Çok değerli mantık
- D) Özdeşlik mantığı

16. Aşağıdaki ifadelerden hangisi yanlıştır?

- A) Doğruluğu açıkça belli olan önermelere teori denir.
- B) Bir teori; tanımlar, aksiyomlar ve teoremlerden oluşur.
- C) Aksiyomlardan türetilmiş önermelere teorem denir.
- D) Tanım, verilen bir dildeki yeni değişmez anlamını, dilde var olan değişmezler yardımıyla belirleme işlemidir.

17. "Su iki hidrojen bir oksijenden oluşur." önermesini kanıtlamak için dünyadaki bütün suları analiz etmek gerekir ki bu olanaklı değildir. Bu durumda kanıtlama, grubun tümüne değil bir kısmına dayandırılıyor demektir.

**Bu durumu ifade eden kavram aşağıdakilerden hangisidir?**

- A) Tümdengelim
- B) Tam tümevarım
- C) Eksik tümevarım
- D) Varsayımlı dedüktif yöntem

18. Aşağıdakilerden hangisi mantık felsefesinin ele aldığı problemler arasında değildir?

- A) Mantık ilkeleriyle ilgili sorunlar
- B) Doğruluk ve varlıkla ilgili sorunlar
- C) Geçerlilik kavramıyla ilgili sorunlar
- D) Varlığın niteliğiyle ilgili sorunlar

19. Aşağıdakilerden hangisi mantığın eleştirel düşünme ve akılcı tartışmaya uygulanmasını ifade eder?

- A) Özdeşlik mantığı
- B) Tartışma mantığı
- C) Varlık mantığı
- D) Kiplik mantığı

20. "p" önermesi yanlış, "q" önermesi doğru ise aşağıdakilerden hangisi "doğru" değeri alır?

- A)  $p \Rightarrow q$
- B)  $p \wedge q$
- C)  $p \vee \sim q$
- D)  $p \Leftrightarrow q$

1. Aşağıdakilerden hangisi çekirdek ailenin bireylerindendir?

- A) Anne
- B) Hala
- C) Teyze
- D) Nine

2. Aşağıdakilerden hangisi, çocuklarının bakımı konusunda iş birliği içerisinde olan ebeveynlerin özelliklerinden biri değildir?

- A) Birbirlerinin annelik ve babalık haklarına saygı duyarlar.
- B) Çocuklarıyla ilgili neyin iyi olduğuna beraberce karar verirler.
- C) Çocuklarına sergileyecekleri ebeveynlik yaklaşımı konusunda hemfikirlerdir.
- D) Birbirlerine karşı öfke ve gücümüşlük duygularını, çocuklarının bakımıyla ilgili görev ve sorumluluklarına yansıtırlar.

3. Aşağıdakilerden hangisi aile planlamasının amaçlarından biri değildir?

- A) Yüksek riskli ve istenilmeyen gebelikleri önlemek
- B) Bireyleri ve aileleri üreme sağlığı konusunda eğitmek
- C) Çiftlerin istedikleri cinsiyette çocuk sahibi olmalarını sağlamak
- D) Ailelerin kendi iradeleriyle istedikleri sayıda çocuk sahibi olmalarını sağlamak

4. Aşağıdakilerden hangisi genel koruma yöntemlerinden "rahim içi araçların" özelliklerindendir?

- A) Döllenmeyi önlememesi
- B) Bakır ve hormon içeren tiplerinin olması
- C) Cinsel yolla bulaşan enfeksiyonlardan koruması
- D) Anne sütünün yapısını değiştirdiği için emzirirken kullanılmaması

5. I. İdrar testi  
II. Solunum testi  
III. Kan testi (Beta HCG)

Yukarıdakilerden hangileri gebelik tanısı için kullanılan testlerdendir?

- A) I ve II.
- B) I ve III.
- C) II ve III.
- D) I, II ve III.

6. Aşağıdakilerden hangisi, gebelik döneminde annenin yetersiz ve dengesiz beslenmesinin bebek üzerindeki etkilerindendir?

- A) Yorgunluk
- B) Diş kayıpları
- C) Düşük ağırlıklı doğum
- D) Tansiyon problemleri

7. "Yetersiz beslenmenin de içinde bulunduğu birçok nedene bağlı olarak gebeliğin son döneminde, kan basıncının artması, idrarla protein kaybı sonucu el ve ayaklarda ağır ödemlerle ortaya çıkmaktadır."

**Yukarıdaki açıklama, gebelik döneminde görülen sorunlardan hangisiyle ilgilidir?**

- A) İshal
- B) Osteomalasia
- C) Lohusa humması
- D) Gebelik zehirlenmesi

8. Kan uyumsuzluğu ile ilgili olarak verilenlerden hangisi doğrudur?

- A) Anne Rh(-), bebek Rh(-) olduğunda kan uyumsuzluğu yoktur.
- B) Kan uyumsuzluğu olmadığı anneye anti D immün globulin verilmesi gerekir.
- C) Anne Rh(-), eşi Rh(+) olduğu durumlarda doğacak bebeğin kan grubu Rh(-) olmaz.
- D) Anne ve eşi Rh(-) kan grubuna sahipse genetik olarak bebekleri Rh(+) kan grubuna sahip olur.

9. D vitamini hangi maddenin kemiklere taşınmasını sağlar?

- A) Posa
- B) Kalsiyum
- C) Kolesterol
- D) Hemoglobin

10. Aşağıdakilerden hangisi, Türkiye'de çocuklara uygulanan zorunlu aşı takvimine göre "2. ayın sonunda" yapılması gereken aşıardan biri değildir?

- A) BCG
- B) KPA
- C) OPA
- D) DaBT-IPA-Hib

11. Aşağıdakilerden hangisi çocuklarda ve gençlerde en çok görülen kanser türlerindendir?

- A) Yumurtalık kanseri
- B) Akciğer kanseri
- C) Rahim kanseri
- D) Kan kanseri

## 1. OTURUM

12. Akdeniz anemisi kan aktarımına bağlı bir hastalık olduğundan tedavisinde, 3-4 haftada bir yapılan konsantre alüvyar aktarımı ve düzenli - - - ilaçlar kullanılır.

**Bu ifadede boş bırakılan yere aşağıdakilerden hangisi yazılmalıdır?**

- A) demir bağlayıcı  
B) tansiyon düşürücü  
C) kan şekerini yükseltici  
D) solunum yollarını daraltıcı
13. I. Kişide ateş ataklarının yanı sıra karın, göğüs ve eklem ağrısı da görülür.  
II. Hastalığın ortaya çıkması için anne ve babasının taşıyıcı ya da hasta olması gerekir.
- Yukarıda Akdeniz ateşinin temel özellikleriyle ilgili olarak verilenler için ne söylenebilir?**
- A) I. doğru, II. yanlış  
B) I. yanlış, II. doğru  
C) Her ikisi de doğru  
D) Her ikisi de yanlış

14. **Kronik akciğer hastalığı ile ilgili olarak verilenlerden hangisi doğrudur?**

- A) Geriye dönüşlüdür, ilerlemez.  
B) Yağışlı, sisli ve soğuk havalar bu hastalığa sahip kişilerin şikâyetlerini azaltır.  
C) Alerjen maddelerin yetersizliğine bağlı olarak morarma, aşırı yorgunluk, güçsüzlük ve kalp yetersizliği görülebilir.  
D) Doğru beslenmek, düzenli uyumak ve sigaradan uzak ortamlarda bulunmak bu hastaların yaşam kalitesini yükseltir.

15. **Bulaşıcı bir hastalığın, bir bölgede aniden ortaya çıkıp hızla yayılarak çok sayıda insanda görülmesine ne ad verilir?**

- A) Tecrit  
B) Epidemi  
C) Toksemi  
D) Karantina

16. **Aşağıdakilerden hangisi sağlam kişilerin hastalıklardan korunması için alınacak önlemlerdendir?**

- A) Bağışıklama  
B) Filiasyon arama  
C) Dezenfekte etme  
D) Portörleri saptama

17. **Aşağıdakilerden hangisi su ve besinlerle bulaşan hastalıklardandır?**

- A) Astım  
B) Talasemi  
C) Brusella  
D) Hemofili

18. **Vektörlerle bulaşan hastalıkların genel özellikleriyle ilgili olarak verilenlerden hangisi doğrudur?**

- A) Vektörlerin ve hastalığın mevcudiyeti, hastalığın yayılmasını engeller.  
B) Korunmanın en önemli ilkesi, bulaşma aracı olan vektörün ortadan kaldırılmasıdır.  
C) Bulaşma için ara canlıya ihtiyaç yoktur.  
D) Dağılımı bölgesel özellik göstermez.

19. • Aşırı kilo kaybı, ağız ve deride sık tekrarlanan uçuk ve lenf bezlerinin büyümesi gibi belirtiler ortaya çıkar.  
• Belirtiler, kişinin vücut direncine göre virüs bulaştıktan 10-15 yıl sonra da görülebilir.  
• Kişinin bu hastalığa ait virüsü taşıyıp taşımadığını saptamak için Eliza testi yapılır.

**Yukarıda bazı özellikleri verilen ve cinsel yolla bulaşan hastalık hangisidir?**

- A) AIDS  
B) Frengi  
C) Hepatit B  
D) Bel soğukluğu

20. I. Kusma  
II. Ense sertliği  
III. Anlamsız konuşmalar  
IV. Solunum problemleri

**3 ay-3 yaş arası çocuklarda, 24 saatten uzun süreli ateş varlığının yanında yukarıdaki belirtilerden hangilerinin görülmesi hâlinde zaman geçirilmeden hekime başvurulmalıdır?**

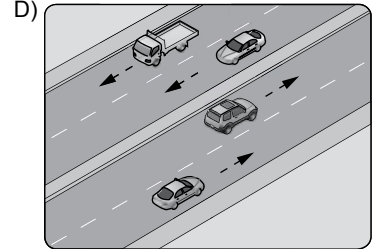
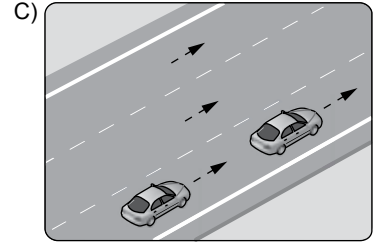
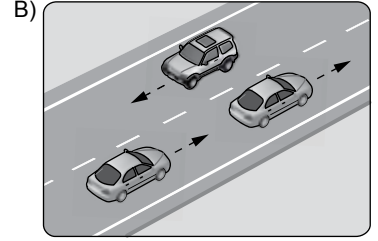
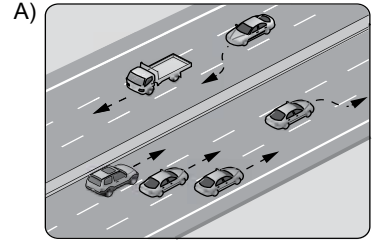
- A) I ve II.  
B) I, III ve IV.  
C) II, III ve IV.  
D) I, II, III ve IV.

### (491) TRAF. VE İLK YARD. – 1

1. **Trafikte yaşanan sorunların en etkili çözümü aşağıdakilerden hangisidir?**

- A) Paylaşım kültüründen uzak olunması  
B) Sadece trafik kurallarının öğrenilmesi  
C) "Biz" değil "ben" bilincinin oluşturulması  
D) Bilinçli, sorumluluk sahibi bireylerin yetiştirilmesi

2. **Aşağıdakilerden hangisi iki yönlü karayoludur?**



3. **Sürücülerin aşağıdakilerden hangisini yapması yanlıştır?**

- A) Tek yönlü yolda duraklaması ve geri gitmesi  
B) Otoyola girişte hızlanma şeridini kullanması  
C) Kavşaklarda ilk geçiş hakkı kuralına dikkat etmesi  
D) İniş eğimli yolda, çıkışta kullanılacak vitesle inmesi

4. **Aşağıdakilerden hangisi trafikte kamunun rahatını ve huzurunu bozacak, zarar verecek tutum ve davranışlardandır?**

- A) Taşıt hareket hâlindeyken taşıta binmek ve inmek  
B) Sürücüyü rahatsız edecek davranışlardan kaçınmak  
C) Su, çamur ve benzerlerini sıçratmamaya özen göstermek  
D) Seyir emniyetini tehlikeye düşürecek davranışlardan uzak durmak

## 1. OTURUM

5. Aşağıdakilerden hangisi, çevre kirliliğine duyarlı olan bireyin göstermesi gereken davranışlardandır?

- A) Yüksek sesle müzik dinlemesi
- B) Uzun süreli kornaya basması
- C) Çevreyi kirlütenleri uyarması
- D) Yiyecek ve içecek atıklarını yol kenarına atması

6. Öndeki araca arkadan çarpmayı önlemek için aşağıdakilerden hangisi yapılmalıdır?

- A) Takip mesafesi korunmalı
- B) Sürekli sol şeritten gidilmeli
- C) Dörtlü ikaz lambaları yakılmalı
- D) Öndeki araç sürücüsü sürekli uyarılmalı

7. I. Hatalı sollama  
II. Sis ve gizli buzlanma  
III. Uzun süreli uykusuzluk

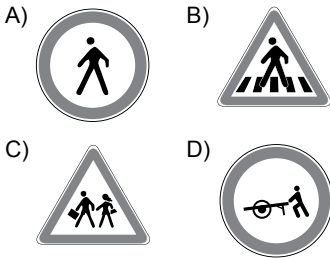
Yukarıdakilerden hangileri kişiye bağlı kaza nedenlerindendir?

- A) I ve II.
- B) I ve III.
- C) II ve III.
- D) I, II ve III.

8. Aşağıdakilerden hangisi trafik kazalarının psikolojik sonuçlarındandır?

- A) Kendine güven duyma
- B) Yaşama isteğinde artma
- C) Problemler karşısında sabırlı olma
- D) Araç sürmede güçlük çekme

9. Aşağıdaki trafik işaretlerinden hangisi "okul geçidi" anlamındadır?



10. I. Sürüş öncesi düzenli ve yeterli uyunması  
II. Sürüş sırasında emniyet kemerinin bağlanması  
III. Araç kapasitesinin üstünde yük ve yolcu taşınması

Yukarıdakilerden hangileri güvenli yolculuk için alınması gereken önlemlerdendir?

- A) Yalnız I
- B) I ve II.
- C) II ve III.
- D) I, II ve III.

11. Aşağıdakilerden hangisi şerit takip kurallarındandır?

- A) Kavşaklara yaklaşırken, yerleşim yerlerinde 30 metre mesafe içinde şerit değiştirmek
- B) Trafiği aksatacak veya tehlikeye düşürecek şekilde şerit değiştirmek
- C) İki yönlü ve üç şeritli yollarda en sol şeride girmek
- D) Aracın cinsine ve hızına uygun şeritte gitmek

12. Yerleşim yeri dışındaki bölünmüş kara yolunda seyreden bir otobüsün, aksine bir işaret yoksa azami (en yüksek) hızı saatte kaç kilometredir?

- A) 50
- B) 70
- C) 90
- D) 110

13. Trafik zabıtası veya trafik işaret levhası ve ışıklı işaret cihazı bulunmayan kontrolsüz kavşaklarda, aşağıdakilerden hangisinin yapılması yanlıştır?

- A) Bütün sürücülerin geçiş üstünlüğüne sahip araçlara yol vermesi
- B) Dönüş yapan sürücülerin, doğru geçmekte olan araçlara yol vermesi
- C) Tali yoldan ana yola çıkan sürücülerin ana yoldan geçen araçlara yol vermesi
- D) Dönel kavşak içindeki sürücülerin, dönel kavşağa gelen araçlara yol vermesi

14. Aşağıdakilerden hangisi duraklamanın yasak olduğu yerlerdendir?

- A) Zorunlu hâllerde taşıt yolunun üzeri
- B) Otobüs durakları, yaya ve okul geçitleri
- C) Kara yolunda görüşün yeterli olduğu tepe üstü yakınları
- D) Duraklamanın yasak olduğunun trafik işaretiyle belirtilmediği yerler

15. Aşağıdakilerden hangisi, sürücülerin yolcu indirme ve bindirme sırasında yapmış olduğu hatalı davranışlardandır?

- A) Kapılar kapanmadan hareket etmesi
- B) Araç durduktan sonra kapıları açması
- C) Gidiş yönüne göre aracını en sağda durdurması
- D) Yolcuları aracın sağ tarafından indirip bindirmesi

16. Tehlikeli madde taşıyan araçların arızalanması durumunda kara yolu üzerindeki işaretlenmesi nasıl yapılmalıdır?

- A) Sadece dörtlü ikaz ışıkları yakılarak
- B) Aracın ön ve arkasına kırmızı renkte bez takılarak
- C) Diğer sürücülerin en az 150 metre mesafeden görebileceği şekilde kırmızı ışıklı cihaz konularak
- D) Aracın önüne ve arkasına en az 10 metre mesafe olacak şekilde renkli yansıtıcı konularak

17. Yayaların karşıdan karşıya geçerken aşağıdakilerden hangisini yapmaları yanlıştır?

- A) Yaya ve okul geçitlerindeki ışıklı işaretlere uymaları
- B) Duran araçların önünden, arkasından veya arasından karşıya geçmeleri
- C) Trafik ışıkları veya trafiği yöneten yoksa yaklaşan araçların uzaklık ve hızını dikkate almaları
- D) Trafik yetkili bir kişi tarafından yönetiliyorsa geçecekleri doğrultu açıldıktan sonra yola girmeleri

18. I. Sürmeleri sırasında, elde paket veya bagaj taşımaları  
II. Özel şekilde imal edilmiş üç tekerlekli motosikletlerle yolcu taşımaları  
III. Sürücü arkasında yeterli oturma yeri olsa bile bir kişiden fazlasını taşımaları

Bisiklet ve motosiklet sürücülerinin yukarıdakilerden hangilerini yapmaları yasaktır?

- A) Yalnız I
- B) I ve III.
- C) II ve III.
- D) I, II ve III.

19. Resmi araçlara takılan plakaların renkleri, aşağıdakilerden hangisinde doğru olarak verilmiştir?

- A) Zemin siyah, harf ve rakamlar beyaz
- B) Zemin beyaz, harf ve rakamlar siyah
- C) Zemin mavi, harf ve rakamlar beyaz
- D) Zemin kırmızı, harf ve rakamlar sarı

20. Hususi otomobil sahipleri, aşağıdakilerden hangisini her yıl yaptırmak zorundadır?

- A) Kasko sigortasını
- B) Tescil belgesinin değişimini
- C) Mali sorumluluk sigortasını
- D) Aracın teknik şartlara uygunluğu muayenesini

# 1. OTURUM

## (502) İNGİLİZCE – 8


1 - 20. sorularda boş bırakılan yere uygun gelen sözcük ya da ifadeyi işaretleyiniz.

- 1. Akın - - - - to Bursa this time tomorrow.**  
A) drive                      B) drove  
C) had driven                D) will be driving
- 2. Don't go out - - - - you feel bad.**  
A) so                            B) by  
C) if                             D) and
- 3. If you - - - - ice, it melts.**  
A) heat                        B) read  
C) like                         D) use
- 4. My father will buy a computer for me if I - - - - the class.**  
A) pass                        B) passes  
C) passed                    D) passing
- 5. If I were you, I - - - - hard to finish the project.**  
A) have worked            B) would work  
C) will work                 D) work
- 6. Melinda could go abroad if she - - - - a passport.**  
A) will have                 B) has had  
C) have                        D) had
- 7. - - - - the fact that he was poor, he could not buy a car.**  
A) If                             B) Due to  
C) Just                         D) Until
- 8. We will be in Erzurum this time - - - -.**  
A) two weeks ago  
B) next weekend  
C) last Sunday  
D) yesterday
- 9. Put the car - - - - you can find it easily.**  
A) when                        B) what  
C) where                       D) which

- 10. Robert goes to bed early - - - - he is very old.**  
A) because                    B) while  
C) after                        D) just
- 11. Last year, I studied hard - - - - graduate from the university.**  
A) until                        B) after  
C) by the time                D) in order to
- 12. - - - - I finish my homework, I feel very happy.**  
A) When                      B) Just  
C) But                         D) So
- 13. They will work - - - - they can.**  
A) most                        B) the most  
C) as much as                D) more than
- 14. I know - - - - you did last summer.**  
A) why                         B) what  
C) when                        D) which
- 15. You won't get fat - - - - you do exercise.**  
A) by the time                B) before  
C) as long as                 D) while
- 16. I will go to Jamaica - - - - I have enough money.**  
A) before                      B) until  
C) so                            D) if
- 17. Our garden is always - - - - by my brother.**  
A) cleaned                    B) brought  
C) played                     D) slept
- 18. The Great Wall of China was built - - - - the ancient Chinese.**  
A) by                            B) to  
C) if                             D) from
- 19. The thief was - - - - by the police.**  
A) catching                    B) catches  
C) caught                     D) catch
- 20. Our car hasn't been - - - - yet.**  
A) understood                B) played  
C) smelled                    D) repaired

## (502) ALMANCA – 8

1 - 19. sorularda boş bırakılan yere uygun gelen kelime ya da ifadeyi işaretleyiniz.

- 1. A: - - - - ?**  
**B: Danke, es geht uns gut.**  
A) Wann seid ihr gut  
B) Wie gehst du  
C) Was macht ihr  
D) Wie geht es euch
- 2. A: - - - - gehört das Fahrrad?**  
**B: Das Fahrrad gehört - - - - Jungen.**  
A) Wem / dem                B) Wer / der  
C) Wen / den                 D) Was / das
- 3. Monika fühlt - - - - wohl, aber ich fühle - - - - nicht wohl.**  
A) dich / sich                B) sich / mich  
C) dir / mir                    D) sein / mein
- 4. Der Zug - - - - gestern nach Adana.**  
A) fahren                      B) fährt  
C) fuhr                         D) gefahren
- 5.**  
  
**Die Schuhe sind billig.**  
**Das Hemd ist - - - - .**  
**Das T-Shirt ist - - - - .**  
A) billiger / am teuersten  
B) teurer / am billigsten  
C) teuer / am teuersten  
D) billiger / am billigsten
- 6. dem weiß- - - - - Kleid / der lang- - - - Weg**  
A) -e / -en                    B) -en / -e  
C) -es / -es                   D) -e / -e
- 7. Die Schwester - - - - Mutter ist meine Tante.**  
A) mein                        B) meine  
C) meiner                     D) meinen

# 1. OTURUM

8. Das Haus, - - - - weiß ist, ist sehr teuer.

- A) der B) die C) den D) das

9. Die Fische schwimmen - - - - Wasser.

- A) im B) in C) auf D) ins

10.



Das Taxi ist - - - - dem Krankenhaus.

- A) zwischen B) hinter  
C) vor D) unter

11. Ich lege den Teller - - - - Tisch. Der Teller liegt - - - - Tisch.

- A) auf den / auf dem  
B) an der / an den  
C) in das / in der  
D) auf der / auf den

12. Können Sie mir bitte - - - - Flasche geben.

- A) dieser B) diese  
C) dieses D) diesen

13. Ich kaufe - - - - Freund ein Geschenk zum Geburtstag.

- A) mein B) meine  
C) meiner D) meinem

14. Wir gehen mit unser- - - - - Freunden in das neue Geschäft.

- A) - B) -e C) -er D) -en

15. A: Was repariert Markus?  
B: Er repariert - - - - Kühlschrank.

- A) der B) das C) den D) dem

16. A: Hallo Mehmet! Kennst du den neuen Lehrer?  
B: Nein, ich kenne - - - - nicht.

- A) er B) ihn C) sie D) der

17. Hasan - - - - nicht mit uns ins Theater - - - -.

- A) wird / kommen  
B) kommen / werden  
C) kommt / wird  
D) werde / komme

18. - - - - die Ampel grün ist, darf ich fahren.

- A) Denn B) Dann  
C) Wenn D) Wann

19. Ich gehe zum Arzt, - - - - ich bin krank.

- A) denn B) wenn  
C) damit D) um

20. Aşağıdakilerden hangisi "sıfat" değildir?

- A) krank B) kaufen  
C) weiß D) heiß

## (502) FRANSIZCA – 8

1 - 18. sorularda boş bırakılan yere uygun gelen sözcük ya da ifadeyi işaretleyiniz.

1. Hier soir, - - - - suis rentré à cinq heures du matin.

- A) il B) je (j')  
C) elle D) tu

2. Avant de sortir, - - - - votre manteau.

- A) habitez B) parlez  
C) mettez D) buvez

3. Ce soir, on va au cinéma. N'oublie pas de (d') - - - - trois tickets.

- A) regarder B) venir  
C) aimer D) acheter

4. Le café - - - - à 23 heures.

- A) mange B) ferme  
C) cherche D) bois

5. Ma fille a vu le film Titanic - - - - elle trouve super.

- A) où B) dont  
C) que (qu') D) qui

6. Carole : Qu'est-ce que tu prends comme boisson ?

Hélène : Je prends - - - -.

- A) du jus d'orange  
B) des pommes de terre  
C) du fromage  
D) un gâteau au chocolat

7. Albert : Zeynep téléphone souvent à - - - - ?

Canan : Oui, elle leur téléphone souvent.

- A) son père B) sa mère  
C) son fils D) ses parents

8. Léa : Et toi, tu ne prends pas d'omelette ?

Luc : Si, mais je peux - - - - manger deux fois par semaine.

- A) lui B) en  
C) leur D) les

9. Les Turcs boivent 25 litres de lait - - - - personne - - - - an.

- A) en / en B) dans / en  
C) en / dans D) par / par

10. Je ne suis jamais allé en Allemagne mais mon cousin - - - - travaille.

- A) le B) en  
C) y D) par

11. Nicole a rendez-vous à 7 - - - - du matin.

- A) à midi B) jours  
C) heures D) à l'heure

12. J'ai cassé les verres - - - - ma maladresse.

- A) à cause de  
B) pourquoi  
C) parce que  
D) grâce à

# 1. OTURUM

13. Pour maigrir, il faut - - - - .

- A) manger beaucoup
- B) faire un régime
- C) acheter un ordinateur
- D) avoir un portable

14. - - - - on ira en vacances en Afrique.

- A) Le mois prochain
- B) Hier
- C) Avant-hier
- D) Jeudi dernier

15. Henri : Tu viens à mon anniversaire ?  
Alain : - - - - .

- A) Si j'ai soif, je veux boire du jus d'orange
- B) S'il a faim, il mange de la salade
- C) Si je vais mieux, je veux venir
- D) S'il y a un bon film, il veut aller

16. Mustafa n'a pas fait ses devoirs,  
car - - - - un film d'action à la télé.

- A) c'était
- B) il faisait froid
- C) il y avait du soleil
- D) il y avait

17. Mme Dupont : Sylvie, je n'ai plus de viande, tu peux aller - - - - ?

Sylvie : D'accord, il faut autre chose ?

Mme Dupont : Oui, du poulet pour demain.

- A) à la gare
- B) à l'aéroport
- C) à la librairie
- D) à la boucherie

18. Tu peux conduire mais il faut être - - - - .

- A) attentif
- B) timide
- C) malhonnête
- D) généreux

19 - 20. sorularda verilen resme göre cümlede boş bırakılan kısmı tamamlayan sözcük ya da ifadenin bulunduğu seçeneği işaretleyiniz .

19.



Quand il fait beau, - - - - .

- A) ils lavent leur moto
- B) ils réparent mon vélo
- C) ils font du vélo
- D) ils voyagent en auto

20.



M. Dubois qui est - - - - a deux chats et deux chiens.

- A) une fausse amie
- B) un vieux monsieur
- C) un jeune homme
- D) une vieille femme

## (511) FIKIH – 1

1. **Temel amacı;** "insanın yaratıcısına, kendisine ve diğer insanlara karşı hak ve sorumlulukları bilmesidir" şeklinde tanımlanan ilim dalı aşağıdakilerden hangisidir?

- A) Kelam
- B) Fıkıh
- C) Tefsir
- D) Hadis

2. Borçlar, alım-satım, kira ve sözleşme gibi mali konularla ilgili hükümler Fıkıh ilminde hangi başlık altında incelenmiştir?

- A) İbadât
- B) Ukubât
- C) Muâmelât
- D) Münekehât

3. Fıkıh ilmindeki "killetü't-tekalîf" in anlamı aşağıdakilerden hangisidir?

- A) Sorumlulukların azlığı
- B) Hükümlerde tedricilik
- C) Mükellefiyette kolaylık
- D) Kamu yararının gözetilmesi

4. "Sana içkiyi ve kumarı sorarlar. De ki: Onlarda hem büyük günah hem de insanlar için (bazı) yararlar vardır. Ama günahları yararlarından büyüktür..."

(Bakara suresi, 219. ayet)  
"Ey iman edenler? Sarhoş iken ne söylediğinizi bilinceye kadar, ... namaza yaklaşmayın."

(Nisâ suresi, 43. ayet)  
"Ey iman edenler! İçki, kumar, dikili taşlar ve fal okları ancak şeytan işi birer pisliktir. Onlardan kaçının ki kurtuluşa eresiniz. Şeytan, içki ve kumarla, ancak aranıza düşmanlık ve kin sokmak, sizi Allah'ı anmaktan ve namazdan alıkoymak ister. Artık vazgeçiyor musunuz?"

(Maide suresi, 90 ve 91. ayetler)

**Bu ayetler fıkıh ilmindeki hangi temel ilkeye örnek oluşturur?**

- A) Mükellefiyette kolaylık
- B) Haramlarda sınırlılık
- C) Hükümlerde tedricilik
- D) Adaletin gerçekleşmesi

5. Aşağıdakilerden hangisi fıkhi mezheplerin doğuşunu hazırlayan sebepler arasında yer almaz?

- A) Âlimlerin, etnik, kültürel ve tarihsel açıdan farklı ortamlarda yetişmiş olmaları
- B) İlk Müslümanların İslam'ı öğrenmek için Hz. Peygamber'e sorular yöneltmeleri
- C) Dini metinlerdeki bazı ifadelerin farklı yorumlamalara imkân verecek tarzda oluşu
- D) Meseleler çözümlenirken benimlenen yöntem, kullanılan usul ve âlimlerin içtihat yeterliliği

6. Günümüzde daha çok Mısır, Suriye, Hicaz, Filistin ve Doğu Afrika ile Endonezya, Malezya ve Türkiye'nin doğusunda yaygın olan fıkhi mezhep aşağıdakilerden hangisidir?

- A) Câferilik
- B) Hanefilik
- C) Malikilik
- D) Şafilik

# 1. OTURUM

7. • Tümevarım yöntemini benimsemiştir.
- Hüküm verirken Kur'an, Sünnet, Sahabe görüşleri sıralamasını esas almış. Bu kaynaklarda bulamadığında içtihat etmiştir. İchtihatlarında da kıyas ve istihsana başvurmuştur.
  - Sahih olmayan hadislerle hüküm vermek yerine içtihat etmeyi daha uygun görmüştür. O kendi görüşlerinin körü körüne taklit edilmesine de karşı çıkmıştır.

**Hakkında bilgi verilen fıkıh âlimi aşağıdakilerden hangisidir?**

- A) Ebû Hanife
- B) İmam Malik
- C) İmam Şafii
- D) Ahmed b. Hanbel

8. **Aşağıdakilerden hangisi fıkıh ilminin "taklit dönemi" özellikleri arasında yer almaz?**

- A) Tedvin edilen hadisler, fıkıh konularına göre düzenlenmiştir
- B) Fıkıh kitaplarının ayrıntılı yazılması fıkıh faaliyetleri azaltmıştır.
- C) Mezhep imamlarına gösterilen saygı, onların görüşlerinin tek doğru olarak görülmesine neden olmuştur.
- D) Fıkıhta kanunlaştırma faaliyetleri nedeniyle fakihler, belli bir mezhebin görüşüne göre hüküm vermeye başlamıştır.

9. **Aşağıdakilerden hangisi İslam hukukuna göre mükellef olmanın şartlarından biri değildir?**

- A) Müslüman olmak
- B) Akıl sahibi olmak
- C) Ergenlik çağına girmiş olmak
- D) Zengin olmak

10. **Mükelleflerin fiillerine ait hükümleri ifade eden kavram aşağıdakilerden hangisidir?**

- A) Avarız-ı Ehliyye
- B) Ef'al-i Mükellefin
- C) Ef'al-i Müctehidin
- D) Ahval-i Müslimin

11. Muamelat ehliyetidir. Kişinin sahip olduğu hakları kullanabilmesidir. Bu ehliyet çeşidinde sadece var olmak yeterli değildir. Ayrıca temyiz kudretine sahip olmak da şarttır. Dolayısıyla bu ehliyete sahip kişilerde aranan temel özellik akıldır.

**Hakkında bilgi verilen ehliyet çeşidi aşağıdakilerden hangisidir?**

- A) Eda
- B) Vücut
- C) Vücut
- D) İktida

12. **Aşağıdakilerden hangisi belli bir vakitte yapılması şart olmayan farzlara örnek oluşturur?**

- A) Hac
- B) Beş vakit namaz
- C) Zekât
- D) Ramazan orucu

13. **Aşağıdakilerden hangisi Kur'an-ı Kerim'de yer alan genel kaidelerden biri değildir?**

- A) Şahitlerin sayısı
- B) Adaletin sağlanması
- C) Danışarak iş yapmak
- D) Bireysel sorumluluğun esas olması

14. Herhangi bir dönemde yaşayan müctehitlerin bir meselenin hükmü ile ilgili görüşlerini açıklaması ile meydana gelen fikir birliğidir. Örneğin Kur'an'ın Hz. Ebu Bekir zamanında kitap haline getirilmesi bu tarzda bir icma'dır.

**Açıklaması yapılan icma çeşidi aşağıdakilerden hangisidir?**

- A) İkrar
- B) Sukutî
- C) Sarih
- D) Beyanî

15. **Her meselede değil de bazı konularda içtihat yapmaya yeterliliği olan müctehitler aşağıdakilerden hangisi ile isimlendirilir?**

- A) Mutlak
- B) Mukayyet
- C) Müktesep
- D) Muhkem

16. **Aşağıdakilerden hangisi sahabe dönemi müctehitlerinden biri değildir?**

- A) Hz. Ömer
- B) Abdullah b. Mes'ud
- C) Abdullah b. Abbas
- D) İbrahim en-Nehaî

17. **Aşağıdakilerden hangisi günümüz fikhî problemlerine örnek oluşturmaz?**

- A) Klonlama
- B) Borsa
- C) Kölelik
- D) Tüp bebek

18. Terim olarak İslam'ın amaçlarına uygun olan, hakkında geçerli veya geçersiz olduğuna dair özel bir delil bulunmayan maslahatlardır. Bu delilin temelinde yararın sağlanması, zararın giderilmesi ilkesi vardır.

**Hakkında bilgi verilen fıkıhî delil aşağıdakilerden hangisidir?**

- A) İstihsan
- B) Sedd-i Zerai
- C) İstishab
- D) Mesalih-i Mürsele

19. **Aşağıdakilerden hangisi fıkıh usulü alanında yazılan ilk eser olarak kabul edilir?**

- A) el-Ümm
- B) er-Risale
- C) el-Muvafakat
- D) el-Mustasfa

20. **Aşağıdakilerden hangisi mükellefiyeti ortadan kaldıran semavi arızalardan değildir?**

- A) Bunaklık
- B) Unutkanlık
- C) Sarhoşluk
- D) Akıl hastalığı

(532) HZ. MUHAMMED'İN HAY. – 2

1. **Aşağıdakilerden hangisi istişarenin yararları arasında yer almaz?**

- A) Danışarak karar verildiğinde yanılma riski daha da artar.
- B) Farklı bilgi ve fikirlerin paylaşılmasına imkân sunar.
- C) Kamuya ait kararların daha doğru alınmasını sağlar.
- D) Problemlerin çözümünde kolaylık sağlar.

2. Ey İnsanlar! Dikkat edin, sizin Rabb'iniz birdir, babanız da birdir. Hepiniz Âdem'in neslindensiniz, Âdem ise topraktan yaratılmıştır.

**Bu hadiste aşağıdaki temel ilkelerden hangisi vurgulanmaktadır?**

- A) Hoşgörü
- B) Sorumluluk
- C) Özgürlük
- D) Eşitlik

3. "Göklerin ve yerin yaratılması, dillerinizin ve renklerinizin farklı olması da O'nun varlığının ve kudretinin delillerindedir..."

(Rum suresi, 22. ayet)

**Bu ayetin mesajı ile aşağıdakilerden hangisi çelişir?**

- A) Çoğulculuğa olumlu yaklaşmak
- B) Farklılıkları kabul etmek
- C) Ayrımcılık yapmak
- D) Çeşitliliği normal karşılamak



# 1. OTURUM

4. Yeni Müslüman olmuş biri Hz. Peygamber'i görmeye gelmişti. Onu görünce heyecandan titremeye başladı. Bunun üzerine Allah Resulü ona: "Arkadaş, sakin ol! Ben kral değilim, Kureyş kabilesinden kurutulmuş et yiyen bir kadının oğluyum." dedi.

**Bu örnekte, Hz. Peygamber'in aşağıdaki özelliklerinden hangisi vurgulanmıştır?**

- A) Adaleti B) Mütevazılığı  
C) Cesareti D) Güvenilirliği

5. Hz. Peygamber, şeytanın tuzakları arasında şunları saymıştır: Allah'ın nimetleriyle azgınlık etmek, Allah'ın verdiği şeyle övünüp büyüklük iddia etmek ve Allah'ın kullarına karşı ululuk ve üstünlük taslamaktır.

**Buna göre aşağıdakilerden hangisi şeytanın tuzaklarından olan davranışlardan biri değildir?**

- A) Tembellik B) Böbürlenmek  
C) Kibirleşmek D) Zulmetmek

6. Hz. Muhammed (sav.) insanların; soyuna, zenginliğine veya gücüne göre değil, hak ettikleri şekilde davranmaya özen göstermiştir. Toplumun hiçbir bireyini diğerinden daha üstün tutmamıştır.

**Hz. Muhammed'in (sav.) bu tutumu aşağıdaki ahlaki ilkelerden hangisine daha çok örnek oluşturur?**

- A) Sevgi B) Hoşgörü  
C) Saygı D) Eşitlik

7. Hz. Peygamber sahabelere: "Kardeşiniz zulüm etse de zulme uğrasa da ona yardım edin." buyurdu. Bunun üzerine sahabeler: "Ey Allah'ın Resulü! Zulme uğrayana yardım etmeyi anladık. Ama zulüm eden kimsene niçin ve nasıl yardım edeceğiz?" diye sordular. Bu soru karşısında Hz. Peygamber: "Onun da zulümden el çekmesini sağlayın. Ona yapacağınız yardım budur." dedi.

**Hz. Muhammed'in (sav.) bu hadisinden çıkarılabilecek en kapsamlı yargı aşağıdakilerden hangisidir?**

- A) Zalim ve mazlum kavramları doğru değerlendirilmelidir.  
B) Haksızlık edenin kötülüğünden uzaklaşmak, o kişiye bir yardımdır.  
C) Haksızlık karşısında susmak yerine mağdur olanlara yardımcı olunmalıdır.  
D) Müslümanın haksızlığa uğraması ve başkalarına da haksızlık etmemesi gerekir.

8. **Aşağıdakilerden hangisi eşitlik ilkesinin korunmadığı bir toplumda bireylerin karşılaşılabileceği sorunlardan biri değildir?**

- A) Dışlandıklarını düşünürler.  
B) Adaletle olan inanışlarını yitirirler.  
C) Öfkeli davranışlarda bulunabilirler.  
D) Dayanışma duygusuyla hareket ederler.

9. Yetimlerin ihtiyacına koşan, Allah yolunda savaşa giden askerlerle, gündüz oruç tutup geceyi ibadetle geçiren gibidir.

**Hz. Muhammed (sav.) bu hadisiyle aşağıdakilerden hangisine dikkat çekmektedir?**

- A) Askerliğin bir vatan görevi olduğuna  
B) Allah yolunda mücadele etmenin kutsiyetine  
C) Yetim ve öksüzlere yardım etmenin önemine  
D) Gündüz oruç tutup geceyi ibadetle geçirmek gerektiğine

10. Her toplumda varlıklı insanlar bulunduğu gibi maddi olanakları zayıf, güçsüz ve kimsesiz insanlar da vardır. Korunmaya ve yardıma muhtaç bu kimsesizleri gözetip onlara sahip çıkmak, toplumun büyük bir sorumluluğudur. Hz. Peygamber "Dul ve kimsesizlerle ilgilenmek için çalışan, onların yardımına koşan Müslüman, Allah yolunda cihat eden veya gündüzleri oruç tutup geceleri de ibadet eden kimse gibidir." diyerek müminleri, bu hususta bilinçli davranmaya teşvik etmiştir.

**Bu parçada, aşağıdakilerden hangisi vurgulanmaktadır?**

- A) Toplumda zenginler kadar fakirler de bulunur.  
B) Sorumluluklarını yerine getiren toplumlar ilerleyebilir.  
C) Kimsesizlere yardımcı olmak, İslam'ın insana verdiği bir görevdir.  
D) Geceleri ibadetle geçirmek, gündüzleri ise oruç tutmak erdemli bir davranıştır.

11. **İslam anlayışına göre Allah katında üstünlük aşağıdakilerden hangisi ile sağlanabilir?**

- A) Soy B) Akıl  
C) Yaş D) Takva

12. Muhakkak ki Allah, benim ümmetimi dalalet (sapıklık) üzere bir araya getirmez.

**Bu hadis ile aşağıdakilerden hangisine ulaşılamaz?**

- A) Müslümanlar hatada ittifak etmemelidir.  
B) Müslüman hatasında ısrarcı olmaz, tövbeye yönelir.  
C) Çoğunluğun aldığı kararlarda isabet oranı yüksektir.  
D) Müslümanların istişareleri hayırlı sonuçlar doğurur.

13. "Kim gözü görmeyen bir kimseyi kırk adım götürürse cennet ona vacip olur."

**Aşağıdakilerden hangisi bu hadisten çıkarılabilecek yargılardan biridir?**

- A) Dinimiz, engellilere karşı duyarlı olunmasını istemektedir.  
B) Devlet engellilerin hayatını kolaylaştırıcı tedbirler almalıdır.  
C) Engellilere yardım eden kişi sorgusuz sualsiz cennete gidecektir.  
D) Engelliler zorluklara sabretmelerinin mükâfatını ahirette alacaklardır.

14. Hz. Peygamber evlenmek isteyenlere destek olmanın önemini sıklıkla dile getirirdi. Maddi imkânlar açısından buna gücü yetmeyen bekârları bizzat kendisi evlendirir ve müminlere de böyle yapmalarını tavsiye ederdi.

**Hz. Peygamber'in bu tutumu öncelikle aşağıdakilerden hangisinin göstergesidir?**

- A) Bütün dinlerin evliliği teşvik ettiğinin  
B) Aile kurmak isteyenlere yardımcı olmanın öneminin  
C) Ailelerin maddi açıdan desteklenmesine duyulan ihtiyacın  
D) Ailenin bir toplumun devamlılığı açısından taşıdığı anlamın

15. "Kişinin bilgi ve yeteneklerinin sınırlı olduğunun farkında olması, büyük bir olgunluktur. Bir işin uzmanlarını dinlemesi, onların fikir ve önerilerini değerlendirmesi önemlidir." **diyen bir kimse, aşağıdaki kavramlardan hangisine işaret etmektedir?**

- A) Bilgi B) Meziyet  
C) Sorumluluk D) İstişâre

## 1. OTURUM

16. Şu dünya malı gerçekten çekici ve tatlıdır. Buna bir Müslümanın sahip olması ne kadar güzeldir! Yeter ki ondan fakire, yetime ve yolcuya versin. **Bu hadisten, aşağıdaki sonuçlardan hangisi çıkarılamaz?**

- A) Yoksul ve mağdur kimselere yardım etmekle zenginlik kalıcı bir hayra dönüşür.  
B) Dünya malı ve kazanç elde etme isteği insanın doğasında var olan bir özelliktir.  
C) İslam, paranın nereden kazanıldığını değil nereye harcanması gerektiğini önemser.  
D) Elindeki imkânları ihtiyaç sahipleriyle paylaştığı sürece kişinin zengin olması övülen bir durumdur.

17. “Ey insanlar! Sizi bir tek nefisten yaratan, ondan da eşini yaratan ve ikisinden birçok erkek ve kadın (meydana getirip) yayan Rabb’inize karşı gelmekten sakının...”  
(Nisâ suresi, 1. ayet)

**Bu ayetten, aşağıdakilerden hangisine ulaşamaz?**

- A) Bütün insanlar aynı atanın çocuklarıdır.  
B) İnsanlar Allah’ın emir ve yasaklarına itaat etmelidir.  
C) İnsanlar doğuştan benzer yeteneklere ve ilgilere sahiptir.  
D) Yararlı bakımından insanların birbirlerine karşı üstünlüğü yoktur.

18. “Mümin olarak erkek veya kadın, her kim salih ameller işlerse, işte onlar cennete girerler ve zerre kadar haksızlığa uğratılmazlar.”  
(Nisâ suresi, 124. ayet)

**Bu ayette vurgulanan ahlakî ilke aşağıdakilerden hangisidir?**

- A) Adalet  
B) Hoşgörü  
C) Özgürlük  
D) Sorumluluk

19. **Aşağıdakilerden hangisi Hz. Peygamber’in istişareyle aldığı kararlardan biri değildir?**

- A) İlk vahiy sonrası eşiyle birlikte Varaka b. Nevfel’e gitmesi  
B) Hudeybiye Antlaşması’ndan sonra eşi Ümmü Seleme’ye danışması  
C) İlk vahiy sonrası Allah’tan aldığı emirleri etrafındakilere iletmesi  
D) Hendek Savaşı öncesi Selmani Farisi’nin önerisini kabul etmesi

20. **Aşağıdakilerden hangisi istişarenin sonuçlarından biri değildir?**

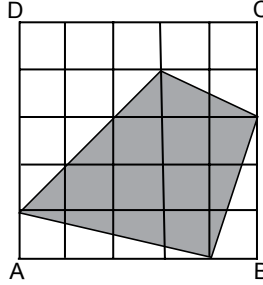
- A) Ortak akli ve ortak iradeyi öne çıkarması  
B) İnsanları bencilce davranışlara sevk etmesi  
C) Toplumda birlik ve beraberliğe katkı sağlaması  
D) İnsanların kendilerini ifade etmelerine imkân tanınması

### (609) MATEMATİK – 6

1. Ölçeği  $\frac{1}{80000}$  olan bir haritada 25 cm uzunluk gerçekte kaç kilometredir?

- A) 40 B) 20 C) 10 D) 2

2.



Eş karelerden oluşan ABCD karesinin alanı  $50 \text{ cm}^2$  olduğuna göre boyalı bölgenin alanı kaç santimetrekaredir?

- A) 26 B) 24 C) 22 D) 20

3. **Dik kenarlarının uzunlukları toplamı 16 metre olan dik üçgen biçimindeki zeminin alanı en çok kaç metrekaredir?**

- A) 64 B) 56 C) 48 D) 32

4. **Ayrıtlarının uzunlukları 4 cm, 5 cm ve 8 cm olan dikkörtgenler prizmasının hacmi kaç santimetreküptür?**

- A) 120 B) 160 C) 240 D) 480

5. **Yüzey alanı  $36 \pi \text{ cm}^2$  olan bir kürenin içine yerleştirilebilecek en büyük hacimli küpün bir ayrıtlının uzunluğu kaç santimetredir?**

- A)  $2\sqrt{3}$  B) 4  
C)  $3\sqrt{2}$  D) 5

6. **Yüzey alanı  $96 \text{ cm}^2$  olan küpün hacmi kaç santimetreküptür?**

- A) 144 B) 125 C) 100 D) 64

7. **Hacmi  $320 \text{ cm}^3$  olan kare dik prizmanın taban ayrıtlarından birinin uzunluğu 8 cm olduğuna göre yüksekliği kaç santimetredir?**

- A) 6 B) 5 C) 4 D) 3

8. Yan yüzeyinin alanı  $42\pi \text{ cm}^2$  olan dik silindirin yüksekliği 3 cm’dir.

**Buna göre bu silindirin taban yarıçapının uzunluğu kaç santimetredir?**

- A) 7 B) 9 C) 12 D) 14

9.

Yakıtlar	Miktar (litre)	Gidilen Yol (km)
Mazot	25	500
Benzin	20	250

Yukarıdaki tabloda, mazotla ve benzinle çalışan iki otomobilin yakıt miktarları ve bu yakıt miktarlarının tamamıyla gidebildikleri yollar verilmiştir.

**Buna göre mazotla çalışan otomobilin 50 litre mazotla gidebileceği yolu, benzinle çalışan otomobil kaç litre benzinle gider?**

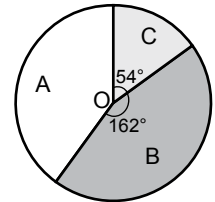
- A) 140 B) 120 C) 100 D) 80

10. Bir hayvan barınağında 130 kedi ve 390 köpek vardır.

**Bu verilerin dağılımını gösteren daire grafiğinde kedilerin sayısına karşılık gelen merkez açının ölçüsü kaç derecedir?**

- A) 90 B) 120 C) 135 D) 150

11.



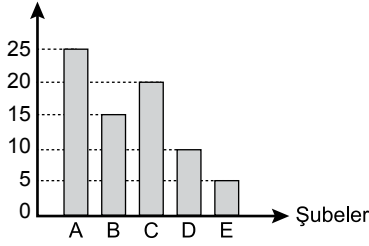
Şekildeki daire grafiğinde A, B, C ürünlerini satan bir mağazadaki toplam 120 ürünün dağılımı gösterilmektedir.

**Buna göre bu mağazadaki A ürününün sayısı kaçtır?**

- A) 56 B) 52 C) 48 D) 44

## 1. OTURUM

12. Kız Öğrenci Sayısı

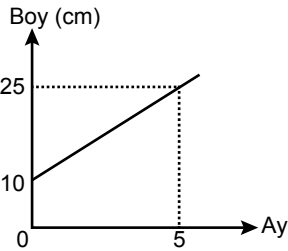


Yukarıdaki grafik bir okulda son sınıfta okuyan kız öğrencilerin sayısının şubelere göre dağılımını göstermektedir.

**Bu okulda son sınıfta okuyan toplam 140 öğrenci olduğuna göre son sınıfta okuyan erkek öğrencilerin sayısı kaçtır?**

- A) 70 B) 65 C) 60 D) 55

- 13.



Yukarıdaki grafik bir fidanın ekildikten sonra aylara göre boyundaki değişimi göstermektedir.

**Buna göre bu fidanın boyu ekildikten kaç ay sonra 46 santimetre olur?**

- A) 15 B) 14 C) 13 D) 12

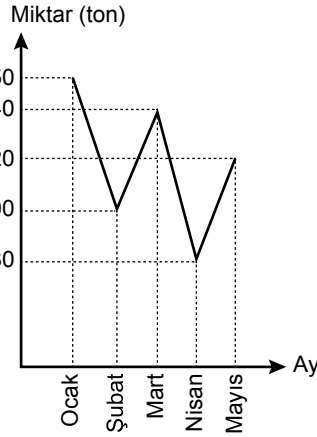
14. Aralarında Ali'nin de bulunduğu 6 kişilik grup içerisinde seçilen 4 kişilik grupta Ali'nin bulunmama olasılığı kaçtır?

- A)  $\frac{1}{6}$  B)  $\frac{1}{3}$  C)  $\frac{1}{2}$  D)  $\frac{2}{3}$

15. Bir torbada bulunan renkleri dışında aynı özelliğe sahip 4 siyah, 5 beyaz bilye arasından seçilen iki bilyenin farklı renkte olma olasılığı kaçtır?

- A)  $\frac{1}{3}$  B)  $\frac{4}{9}$  C)  $\frac{5}{9}$  D)  $\frac{2}{3}$

- 16.



Yukarıdaki grafikte aylara göre bir depodaki buğday miktarları gösterilmiştir.

**Buna göre depodaki buğday miktarındaki en fazla değişim aşağıdaki hangi aylar arasında olmuştur?**

- A) Ocak-Şubat B) Şubat-Mart  
C) Mart-Nisan D) Nisan-Mayıs

17. Ayşe ve Fatma'nın girdikleri yetenek sınavında başarılı olma olasılıkları sırasıyla  $\frac{3}{4}$  ve  $\frac{2}{3}$ 'tür.

**Buna göre ikisinin de girdiği bu sınavda yalnız birinin başarılı olma olasılığı kaçtır?**

- A)  $\frac{5}{12}$  B)  $\frac{1}{2}$  C)  $\frac{7}{12}$  D)  $\frac{2}{3}$

18. İki tane düzgün madeni para atılması deneyinde ikisinin de aynı gelme olasılığı kaçtır?

- A)  $\frac{3}{4}$  B)  $\frac{1}{2}$  C)  $\frac{1}{4}$  D)  $\frac{1}{8}$

19. 3 doktor, 6 hemşireden oluşan hastane personeli arasından seçilecek 4 kişilik acil müdahale ekibinde 1 doktor, 3 hemşire olma olasılığı kaçtır?

- A)  $\frac{1}{3}$  B)  $\frac{3}{7}$  C)  $\frac{10}{21}$  D)  $\frac{2}{3}$

20. Bir koroda 10 kız, 6 erkek öğrenci vardır. Korodaki kızların 2'si, erkeklerin 3'ü enstürüman da çalabilmektedir.

**Buna göre bu korodan seçilen bir öğrencinin erkek veya enstürüman çalabilen bir öğrenci olma olasılığı kaçtır?**

- A)  $\frac{11}{16}$  B)  $\frac{5}{8}$  C)  $\frac{9}{16}$  D)  $\frac{1}{2}$

### (611) KARŞ. DİN. TAR. – 1

1. Tarih boyunca yeryüzünde var olmuş bütün dinlerin diğer dinlerle münasebetlerini, benzer, farklı ve ortak yönlerini tarafsız bir biçimde karşılaştırmalı olarak ele alan bilim dalıdır.

**Hakkında bilgi verilen ilim dalı aşağıdakilerden hangisidir?**

- A) Din Felsefesi  
B) Din Psikolojisi  
C) Mukayeseli İslam Hukuku  
D) Karşılaştırmalı Dinler Tarihi

2. Aşağıdakilerden hangisi diğer dinleri öğrenmeye yönlendiren nedenler arasında yer almaz?

- A) Kur'an-ı Kerim'de diğer dinlerden bahsedilmesi  
B) Hadislerde diğer dinlerin öğrenilmesinin teşvik edilmesi  
C) Diğer din mensuplarıyla çeşitli konularda yapılan tartışmalar  
D) İslam'a giren bazı kesimlerin daha önceden inançlarından kalıntıları taşımaları

3. Vahiy temelli görüşe göre dinin kaynağı nedir?

- A) Allah B) İlham  
C) Vicdan D) Peygamber

4. 1912 yılına kadar Çin'in resmi devlet dini aşağıdakilerden hangisidir?

- A) Şintoizm B) Budizm  
C) Konfüçyanizm D) Taoizm

5. "Din, bir cemaatin meydana gelmesini sağlayan ayin ve inançlar sistemidir."

Emile Durkheim

**Bu tanım aşağıdaki din bilimlerinden hangisinin kapsamındadır?**

- A) Din Felsefesi  
B) Din Sosyolojisi  
C) Din Psikolojisi  
D) Din Fenomenolojisi

6. Türkiye'de Dinler Tarihi'nin örgün eğitimde ders olarak okutulması hangi dönemde başlamıştır?

- A) Selçuklu dönemi  
B) Cumhuriyet dönemi  
C) Osmanlı'nın son dönemi  
D) Fatih Sultan Mehmet dönemi

# 1. OTURUM

7. Aşağıdakilerden hangisi Hristiyanlıkla ilgili yanlış bir bilgidir?

- A) Yayılmacı karakterlidir.
- B) Roma'da ortaya çıkmıştır.
- C) Hz. İsa merkezli bir dindir.
- D) Yunan kültüründen etkilenmiştir.

8. Tarihi süreç içerisinde farklı sebeplere bağlı olarak Hristiyanlıkta birçok yorum ortaya çıkmıştır.

**Aşağıdakilerden hangisi bunlardan biri değildir?**

- A) Katolik
- B) Ortodoks
- C) Protestan
- D) Mason

9. Türkiye'de yaşayan Hristiyan gruplarda en kalabalık topluluk aşağıdakilerden hangisidir?

- A) Rumlar
- B) Ermeniler
- C) Süryaniler
- D) Arap Ortodokslar

10. Aşağıdakilerden hangisi Karşılaştırmalı Dinler Tarihi'nin Hadis'e sağladığı yararlar içinde değerlendirilemez?

- A) Hadis ilminin tarihsel gelişimini anlamaya yardımcı olur.
- B) Geçmiş kavim ve inançlarla ilgili bilgi veren hadislerin doğru anlaşılmasına ve yorumlanmasına yardımcı olur.
- C) Kur'an'ın özüne uymayan bazı hadislerin sahil olup olmadığının tespit edilmesine katkı sağlar.
- D) İslam'ın özüne ters düşen bazı hadislerin kaynağına tespitinde katkı sağlar.

11. Yahudilere göre Tanrı; ataları İbrahim, İshak ve Yakup'la bir ahit yapmış ve onların soyunu kendisi için özel bir millet olarak seçmiştir. Bu yüzden Tanrı, tarihte onlara daima yardım etmiştir. Onları Mısır esaretinden kurtarmak için Hz. Musa'yı görevlendirmiş ve kendisi de onların kurtuluşuna müdahale de bulunmuştur. Tevrat'ı başka milletlere vermemiş onlara vermiştir.

**Bu metinde Yahudiliğin temel özelliklerinin hangisinden bahsedilmektedir?**

- A) Mesihçilik
- B) Seçilmişlik
- C) Kutsal Toprak
- D) Mabet

12. Aşağıdakilerden hangisi Yahudilik ile İslam arasındaki ortak noktalardan biri değildir?

- A) Sünnet olmak
- B) Domuz eti yememek
- C) Kâbe'yi kutsal kabul etmek
- D) Mabetlerine suret sokmamak

13. Aşağıdakilerden hangisi Musevilerin tarih boyunca anıldığı isimlerden biri değildir?

- A) İsevi
- B) İbrani
- C) İsrail
- D) Yahudi

14. M.Ö. 15. yüzyılda Filistin'de göçebe olarak yaşayan kabilenin adıdır. "Öte tarafın insanları" anlamına gelir. Bununla Fırat ve Ürdün nehirlerinin öte kıyısından gelen göçmenler kast edilmiştir.

**Filistin bölgesinde yaşayan yerli halk, bu kabileye aşağıdaki isimlerden hangisini vermiştir?**

- A) Yahudi
- B) Musevi
- C) İbrani
- D) İsrail

15. Dinin kaynağı hakkındaki evrimci görüşe karşı eleştiri getirip, tek tanrı-cı görüşü savunan bilim adamlarının benimsedikleri tezdır.

**Bu tez aşağıdakilerden hangisi ile isimlendirilmiştir?**

- A) Politeist
- B) Agnostist
- C) Gnostis
- D) Monoteist

16. Aşağıdakilerden hangisi Hint Yarımadası'nda doğmuş ve gelişmiş dinlerden biri değildir?

- A) Hinduizm
- B) Şintoizm
- C) Sihizm
- D) Caynizm

17. • Etnik kökenlidir.

- En belirgin özelliklerinden biri kast sistemidir.
- Kendilerini "Sanatana Dharma" terimiyle ifade ederler.

**Bazı özellikleri verilen din aşağıdakilerden hangisidir?**

- A) Budizm
- B) Caynizm
- C) Sihizm
- D) Hinduizm

18. Hz. Süleyman'ın, Kudüs'teki Moriah Dağı'nda inşa ettirdiği Bet Hamikdaş mabedinin İslam geleceğindeki adı nedir?

- A) Beytullah
- B) Beytül- İzce
- C) Beytül-Haram
- D) Beytül-Makdis

19. Mazdaizm ve Mecusilik olarak da adlandırılan din aşağıdakilerden hangisidir?

- A) Zerdüştlük
- B) Brahmanizm
- C) Sihizm
- D) Taoizm

20. • Ülgen

- Kuday
- Tanara
- Çalap

**Bu kavramlarla ilgili aşağıdakilerden hangisi doğrudur?**

- A) Türk boylarının isimleridir.
- B) Orta Asya'daki yer isimleridir.
- C) Eski Türklerde Tanrı için kullanılmış kavramlardır.
- D) Eski Türklerde kullanılan ibadetlerle ilgili kavramlardır.

**(617) SEÇ. DİL VE ANLA. – 7**

1. Aşağıdakilerden hangisi öğretici metinlerin özelliklerinden değildir?

- A) Gerçeklik ön plandadır.
- B) Sözcükler yan ve mecaz anlamlarıyla kullanılır.
- C) Okuyucuya bilgi verme amacı güdülür.
- D) Açık ve sade bir dille yazılır.

2. Aşağıdakilerden hangisi öğretici bir metinden alınmıştır?

- A) Eskici bu diyarı terk etmek zorunda kalmıştır. Bunu işiten çocuk hıçkırığa hıçkırığa ağlamaktadır. Bir daha Türkçe konuşacak adam bulamayacağına ağlamaktadır.
- B) Eskicide saç sakal dağınık, göğüs bağı açık, pantolon dizlerden yamalı, dişler eksik ve surat sapsarıydı; gözlerinin akına kadar sarıydı.
- C) Eskici adlı hikâyede yazar, herkesin başından geçebilecek bir olayı ve gurbet duygusunu kurgulayarak anlatmıştır.
- D) Eskici hem çalışıyor hem de ara sıra "Ha! Ya! Öyle mi?.." gibi dinlediğini bildiren sözlerle onu konuşturuyordu.

# 1. OTURUM

3. Aşağıdakilerden hangisi fabl türüyle ilgili söylenemez?

- A) Hem nazım hem nesir hâlinde yazılabilir.
- B) Ders verme amacı vardır.
- C) Teşhis ve intak sanatlarından yararlanır.
- D) Açıklayıcı ve tartışmacı anlatım ağır basar.

4. Aşağıdakilerden hangisi Türk kaynaklı halk hikâyelerindendir?

- A) Ferhat ile Şirin
- B) Kerem ile Aslı
- C) Yusuf ile Züleyha
- D) Leyla ile Mecnun

5. Aşağıdaki parçalardan hangisi olay hikâyesinden alınmıştır?

- A) Kahve limon iyi geldi. Akşama doğru iyice acıktım, yemek salonuna indim. Orada yeni müdürümle tanışma imkânı buldum.
- B) Gözlerimle ipi takip ettim. Çok incediydi ama yine de zeminin üzerinde onu oldukça net görüyordum. Kafamın içindeki soruyu ne kadar net görüyorsam incecik ipi de o kadar net görüyordum.
- C) Kâğıda sorduğu soru bir leke gibi duruyordu kalbinin ortasında. Kalemimi bıraktı. Parmaklarında bir ince sızı... Düşlerini damıtıyordu hiç durmadan yazarken.
- D) Hafızamın, benliğimin başkasına karışması, benden uzaklaşmasıydı bu durum. Hafızamın bana ait olmaktan çıkmaya başlamasıydı.

6. Aşağıdaki parçaların hangisinde farklı bir bakış açısı kullanılmıştır?

- A) Güneşin alnındaki tarlalarda çekirgeler zıpladı. Çocuklar, "Şimdi başınıza güneş geçecek!" uyarılarına aldırmadan çekirgelerin iç kanatlarını kibrit kutularına doldurdu.
- B) Daha kapıdan içeri adımımı atar atmaz tanıdıktı Karabaş beni. İncelemeyle havlama arası dostça bir ses çıkardı. Işıkları yakınca gördüm onu.
- C) Akşamüzerleri beni sahile götürüyor babam. Denizi koklayarak gün batımını, denizin aynasına vuran kızılığını görmeye çalışıyorum.
- D) Ne Şevket ne ben itiraz ettik. Aslında bakılırsa Dursun'un söyleyeceklerini çok merak ediyordum. Ama ona soru sormaya çekiniyordum.

7. Aşağıdaki dönemlerin hangisinde hikâye ve romanda mekân olarak Anadolu kullanılmaya başlanmıştır?

- A) Servetifünun
- B) Millî Edebiyat
- C) Tanzimat
- D) Fecriati

8. Aşağıdaki eserlerden hangisi psikolojik romana örnek gösterilemez?

- A) Eylül
- B) Genç Werther'in Acıları
- C) Defne Adası
- D) Suç ve Ceza

9. Aşağıdakilerden hangisi Cumhuriyet Dönemi roman yazarlarından?

- A) Namık Kemal
- B) Ahmet Mithat
- C) Nabizade Nazım
- D) Oğuz Atay

10. Aşağıdakilerden hangisi durum hikâyesinin özelliklerinden biridir?

- A) Olay, kişi, zaman ve yer ögesine bağlıdır.
- B) Merak ögesi çözüm bölümünde giderilir.
- C) Belli bir zaman diliminde, hayatın doğallığı içinde insanların davranışları ele alınır.
- D) Olay aktarımında kronolojik sıraya uyulur.

11. Aşağıdakilerden hangisi durum hikâyeleriyle tanınmıştır?

- A) Sait Faik Abasıyanık
- B) Orhan Kemal
- C) Necati Cumalı
- D) Ömer Seyfettin

12. Aşağıdakilerden hangisi komedinin çeşitlerinden değildir?

- A) Karakter
- B) Töre
- C) Epik
- D) Yergi

13. Aşağıdakilerden hangisi dram ile komedinin ortak özelliğidir?

- A) Erdem ve ahlaka önem verilmesi
- B) Amaçlarının seyirciyi gerçeği göstermek olması
- C) Kişilerin her tabakadan seçilmesi
- D) Gülünç, bayağı, korkunç olayları iç içe anlatması

14. Aşağıdakilerden hangisi müzikli oyunlardan değildir?

- A) Opera
- B) Bale
- C) Vodvil
- D) Operet

15. Aşağıdaki eserlerden hangisi epik tiyatro türüne örnektir?

- A) Keşanlı Ali Destanı
- B) Hastalık Hastası
- C) Şair Evlenmesi
- D) Venedik Taciri

16. Aşağıdakilerden hangisi klasik Türk şiiri nazım biçimlerinden değildir?

- A) Kaside
- B) Semai
- C) Şarkı
- D) Murabba

17. Kararmış kara gözler  
Dermanım kara gözler  
Gemim deryada kaldı  
Yelkenim kara gözler

Bu dizelerde "kara gözler" sözünün kullanımıyla sağlanan ahenk unsuru verilen isim aşağıdakilerden hangisidir?

- A) Aliterasyon
- B) Cinaz
- C) Asonans
- D) Akrostiş

18. Dövüşüyorduk Üç Şehitlerimizde  
Zorluyordu derya gibi düşman  
Attığım boşa gitmiyordu  
Lüzumsuzdu nişan.

Bu dizelerdeki söz sanatları aşağıdakilerden hangisidir?

- A) Teşhis – Benzetme
- B) Benzetme – Tariz
- C) Abartma – Benzetme
- D) Kinaye – Tenasüp

19. Yiğit kendini öğende  
Oklar menzili döğende  
Şeşper kalkana değende  
Kalkan gümbür gümbürlerir.

Bu dizeler aşağıdaki şiir türlerinden hangisine örnektir?

- A) Dramatik
- B) Didaktik
- C) Lirik
- D) Epik

20. Aşağıdakilerden hangisi geleneksel Türk tiyatrosunun türlerinden değildir?

- A) Karagöz
- B) Komedyası
- C) Meddah
- D) Orta oyunu

# 1. OTURUM

## (618) SEÇ. DİL VE ANLA. – 8

### 1. Konferans ile ilgili aşağıdakilerden hangisi yanlıştır?

- A) Amacı bir fikri, dinleyenlere benimsetmektir.
- B) Özgün düşünceler dile getirilir.
- C) Konuşmacı sayısının altıyı geçmemesi tercih edilir.
- D) Geniş kitlelere bir konu hakkında bilgi vermek üzere düzenlenir.

2. I. Önceden konuyla ilgili araştırma yapılmalıdır.  
II. Konuşma sırasında ses tonuna dikkat edilmelidir.  
III. Görsellerden etkili bir şekilde yararlanılmalıdır.  
IV. Konuya dikkat çekmek için jest ve mimikte abartıya kaçılmalıdır.

### Bu uygulamalardan hangisi konferansa uygun değildir?

- A) I. B) II. C) III. D) IV.

3. I. Hitap  
II. Sonuç  
III. Konferansın amacı  
IV. Sorular ve cevaplar  
V. Konunun sunuluşu

### Konferans planına göre bu aşamaların uygun sıralanışı aşağıdakilerden hangisidir?

- A) I – II – V – IV – III  
B) I – IV – V – III – II  
C) III – I – V – IV – II  
D) III – I – V – II – IV

4. Bir konunun dinleyiciler önünde alanında uzman kişilerce söyleşi havası içerisinde tartışılmasına ---- denir.

### Bu cümlede boş bırakılan yere aşağıdakilerden hangisi getirilmelidir?

- A) söylev B) açık oturum  
C) forum D) sempozyum

### 5. Aşağıdakilerden hangisi sözlü anlatım türlerindedir?

- A) Forum B) Makale  
C) Deneme D) Gezi yazısı

6. Ey Türk istikbalinin evladı! İşte, bu ahal ve şerait içinde dahi vazifen, Türk istiklâl ve cumhuriyetini kurtarmaktır.

### Bu cümle aşağıdaki türlerin hangisinden alınmıştır?

- A) Konferans B) Söylev  
C) Sempozyum D) Makale

7. Garlar genellikle kent merkezlerinde yer alan büyük tren duraklarıdır. Garlarda gişeler bulunur. Yolcular tren biletlerini gişelerden alabilir. Bu gişelerdeki görevliler güler yüzleriyle iyi bir yolculuğun habercisi olarak görev yaparlar.

### Bu parçada aşağıdaki anlatım türlerinden hangisi kullanılmıştır?

- A) Açıklayıcı  
B) Gelecekte söz eden  
C) Betimleyici  
D) Destansı

8. Belli bir konuyu aydınlatmak amacıyla bilim adamı ve araştırmacıların bir araya geldikleri ve konuşmacıların, konunun belirli bölümlerini sundukları tartışmalı toplantılara ---- denir.

### Bu cümlede boş bırakılan yere aşağıdakilerden hangisi getirilmelidir?

- A) açık oturum B) münazara  
C) sempozyum D) forum

### 9. Konferans ile sempozyumun ortak yönü aşağıdakilerden hangisidir?

- A) Konuşmacıların birbirlerine soru sorabilmesi  
B) Sonlarında bir bildiri yayımlanması  
C) Yazılı anlatım türlerinden olması  
D) Hitabet becerisi gerektirmeleri

10. • Görüş ve karşıt görüşler bir hakem kurulu karşısında tartışılır.  
• Öğrencilerin topluluk karşısında konuşma becerilerinin gelişmesine yardımcı olur.  
• Bir görüşme ve çözüm yöntemidir.

### Bu özellikler aşağıdaki tartışma türlerinden hangisine aittir?

- A) Münazaraya B) Sempozyuma  
C) Konferansa D) Panele

### 11. Aşağıdaki dipnot örneklerinden hangisi doğrudur?

- A) İzzettin Önder ve Diğerleri, İstanbul 1933, Türkiye'de Kamu Maliyesi, Türk Tarih Vakfı Yurt Yayınları.  
B) Türk Tarih Vakfı Yurt Yayınları, Türkiye'de Kamu Maliyesi, İzzettin Önder ve Diğerleri, İstanbul 1933.  
C) İzzettin Önder ve Diğerleri, Türkiye'de Kamu Maliyesi, Türk Tarih Vakfı Yurt Yayınları, İstanbul 1933.  
D) İstanbul 1933, İzzettin Önder ve Diğerleri, Türkiye'de Kamu Maliyesi, Türk Tarih Vakfı Yurt Yayınları.

12. Bilimsel yazılarda etik olarak bir yazar daha önce başkalarının söylediklerini belirtmek zorundadır. Eğer yazar başkasının görüşlerini alır ve yazılarında dipnot olarak belirtmezse buna ---- denir.

### Bu parçada boş bırakılan yere aşağıdakilerden hangisi getirilmelidir?

- A) alıntı B) intihal  
C) yararlanma D) esinlenme

13. Psikolojinin ruh bilimi oluşu, bizi ruhun varlığıyla ilgili ilk tartışmaların yaşandığı Antik Çağ'a kadar götürmektedir. Benzer şekilde bazı Orta Çağ ve Yeni Çağ düşünürleri de ruhun var olduğunu ileri sürmüşlerdir. Heraklitus ve Eflatun başta olmak üzere birçok düşünür, ruhun var olduğu konusunda felsefi tartışmalara girmiş ve "spiritüalist" akım böylece ortaya çıkmıştır.

### Bu parçanın türü aşağıdakilerden hangisidir?

- A) Sohbet B) Deneme  
C) Eleştiri D) Makale

### 14. Aşağıdakilerden hangisi makale türü ile ilgili söylenemez?

- A) Genellikle; açıklayıcı, kanıtlayıcı, öğretici anlatım türlerinden yararlanılır.  
B) Nesnellik ön plandadır.  
C) Söz sanatlarına sıkça başvurulur.  
D) Bilimsel nitelik taşıyan yazılardır.

15. Bilimsel yazıların bu bölümünde, metnin tamamında anlatılanların küçültülerek bir paragraf hâline getirilmiş biçimi yer alır. Bu kısım metnin içeriğini tam anlamıyla ifade edebilecek özellikte olmalıdır.

### Bu parçada bilimsel yazıların hangi bölümünden söz edilmektedir?

- A) Giriş  
B) Özet  
C) Sonuç ve tartışma  
D) Başlık

16. Kadın çantasını kaptığı gibi mağazadan koşarak çıktı.

### Bu cümlede aşağıdaki anlatım ilkelerinden hangisine uyulmuştur?

- A) Akıcılık B) Duruluk  
C) Yalnlık D) Açıklık

## 1. OTURUM

17. Aşağıdakilerden hangisi bir münazara konusu olamaz?

- A) İnternet, kişilerin sosyalleşmesini sağlamaktadır.
- B) Türkiye’de her beş kişiden biri İstanbul’da yaşamaktadır.
- C) Ülkemizde kalkınma köyden başlamalıdır.
- D) Televizyon dizileri toplumsal kültürümüzü zayıflatmaktadır.

18. Edebiyatımızda ilk makale - - - - yılında - - - - tarafından Tercüman-ı Ahval gazetesinde yayımlanmıştır.

**Bu cümlede boş bırakılan yerlere sırasıyla aşağıdakilerden hangisi getirilmelidir?**

- A) 1860 – İbrahim Şinasi
- B) 1865 – Namık Kemal
- C) 1870 – Ziya Gökalp
- D) 1863 – Falih Rıfkı Atay

19. Forumla ilgili aşağıdaki bilgilerden hangisi doğrudur?

- A) Söz alan dinleyiciler özel sorunlarına değinmekten kaçınırlar.
- B) Forumun sonunda bir bildiri yayımlanır.
- C) Uzman kişilerin bir konuyu açıklamak, tanıtmak ve öğretmek amacıyla yaptıkları konuşmalardır.
- D) Tez ve antiteze dayalı bir tartışma türüdür.

20. Aşağıdakilerden hangisi bilimsel yazılarda kullanılan anlatım türlerinden birdir?

- A) Destansı
- B) Öyküleyici
- C) Açıklayıcı
- D) Düşsel

### (627) SEÇ. TÜRK ED. – 7

1. Aşağıdakilerden hangisi Yedi Meşaleciler’den birdir?

- A) Ziya Osman Saba
- B) Yusuf Ziya Ortaç
- C) Necip Fazıl Kısakürek
- D) Nazım Hikmet Ran

2. Aşağıdaki sanatçı - eser eşleştirmelerinden hangisi yanlıştır?

- A) Kemal Tahir – Yol Ayrımı
- B) Yakup Kadri Karaosmanoğlu – Ankara
- C) Orhan Kemal – Müfettişler Müfettişi
- D) Refik Halit Karay – Dokuzuncu Hariciye Koşuşu

3. Zamanla nasıl değişiyor insan! Hangi resmime baksam ben değilim Nerde o günler, o şevk, o heyecan? Bu güler yüzlü adam ben değilim; Yalandır kaygısız olduğum yalan.

**Bu dizelere hâkim olan duygu aşağıdakilerden hangisidir?**

- A) Aşk
- B) Geçmişe özlem
- C) Yaşama sevinci
- D) Umud

4. Toplumdaki oluşumu irdelemekten yana olan yazarımız “Yaprak Dökümü” ve “Eski Şarkı” adlı oyunlarında toplumdaki hızlı değişimin değer karmaşasına yol açtığını ve kuşaklar arasında aşılması güç kopmalar yarattığını göstermiştir.

**Bu parçada sözü edilen yazar aşağıdakilerden hangisidir?**

- A) Reşat Nuri Güntekin
- B) Necip Fazıl Kısakürek
- C) Turan Oflazoğlu
- D) Aziz Nesin

5. Denemenin bağımsız bir edebiyat türü olarak benimsenmesini sağlayan Fransız yazar aşağıdakilerden hangisidir?

- A) Bacon
- B) Montaigne
- C) T. S. Eliot
- D) B. Julien

6. Aşağıdakilerden hangisi deneme türünün özelliklerinden değildir?

- A) Anlatımda içtenlik ve doğallık söz konusudur.
- B) Herhangi bir konu sınırlandırması yoktur.
- C) Yazarlar daha çok kişisel deneyimlerinden ve yaşantılarından esinlenirler.
- D) Nesnel anlatıma önem verilir.

7. Kurtuluş Savaşı sürecinde - - - - , - - - - ve - - - - gazetelerinde yayımlanan makaleler bu türün gelişmesinde etkili olmuştur. Kurtuluş Savaşı’nı destekleyen bu makaleler edebiyatımızın değerli çalışmaları arasında sayılmaktadır.

**Bu parçada boş bırakılan yerlere aşağıdakilerden hangisi getirilemez?**

- A) İrade-i Milliye
- B) Akşam
- C) Takvim-i Vekayi
- D) Vakit

8. Zengin Brezilya topraklarının Atlantik üstünde büyük limanları var: şimalden cenuba doğru; Para Maïos, Pernambouc, Rio de Janeiro, Santos... Bunlar Amazonya’nın kauçuk ve kerestesini, Tropika hükümetlerinin şeker kamışını, tütününü ve kakaosunu, Saint Paule’un kahvesini boşaltan altın ağzıdır.

**Bu parça aşağıdaki yazı türlerinden hangisine örnektir?**

- A) Anıya
- B) Gezi yazısına
- C) Denemeye
- D) Sohbete

9. Aşağıdakilerden hangisi yurt içi gezi yazılarına örnek değildir?

- A) Gide Gide
- B) Anadolu Notları
- C) Bu Diyar Baştan Başa
- D) Seyir Defteri

10. İşte, tam bu sırada Yahya Kemal beni ziyarete gelince mal bulmuş mağribiye dönmüştüm. Ona pek ağır bir külfet yükleyeceğimi biliyordum. Bu yüzden o sıkıntılı durumdan beni kurtarması için ona yalvar yakar olmuşum.

**Bu parça aşağıdaki yazı türlerinden hangisine örnektir?**

- A) Anıya
- B) Makaleye
- C) Gezi yazısına
- D) Fıkraya

11. Su topunun 126 yıllık bir tarihi var. İlk kez 1890’da İngiltere’de bir gölde oynanmış. İlk su topu maçı İngilizler ve İskoçlar arasında yapılmış. 1900 yılında da olimpiyatlarda yer almaya başlamış. 1946 yılında ilk kez Su Topu Dünya Şampiyonası yapılmış.

**Bu parça aşağıdaki türlerden hangisine örnektir?**

- A) Denemeye
- B) Fıkraya
- C) Makaleye
- D) Anıya

12. Aşağıdaki eserlerden hangisi Haldun Taner’e aittir?

- A) Midas’ın Kulakları
- B) Yatık Emine
- C) Keşanlı Ali Destanı
- D) Derya Güllü

# 1. OTURUM

13. Aşağıdakilerden hangisi gezi yazılarında bulunması gereken özelliklerden biri değildir?

- A) Gezilen yerler özüne inilerek anlatılmalıdır.
- B) Okuyucunun ilgisini çekecek görünüm ve olaylar yansıtılmalıdır.
- C) Geziliş görülen yerler gerçekte olduğu gibi tasvir edilmelidir.
- D) Ağır ve süslü bir dil kullanılır.

14. Aşağıdakilerin hangisinde fıkra ile makale yanlış karşılaştırılmıştır?

- A) Fıkra öznel, makale nesnel bir tutumla yazılır.
- B) Fıkralarda savunulan düşünceyi ispatlama gereği yoktur, makalelerde vardır.
- C) Her ikisi de gazete çevresinde gelişen metinlerdir.
- D) Fıkralar sanatlı, makaleler açık bir dille yazılır.

15. Sabahattin Ali'den sonra gelen Türk hikâyeciler ve romancılarının büyük kısmı hayat görüşlerini toplumsal gerçekçilik adıyla edebiyata uygulamışlardır.

**Aşağıdaki sanatçılardan hangisi bu açıklamaya örnek gösterilemez?**

- A) Kemal Tahir
- B) Orhan Kemal
- C) Şeref Taşlıova
- D) Aziz Nesin

16. Aşağıdakilerden hangisi gazete çevresinde gelişen metinlerden biridir?

- A) Deneme
- B) Anı
- C) Gezi yazısı
- D) Biyografi

17. Kendimizi ne denli değiştirirsek değişirelim, içimizden bir türlü atamadığımız, genlerimize kadar sinmiş güdülerimiz vardır. Bunların, bazen hiç ayırımına varmadan bizi yönlendirdiği olur.

Çocuklarımıza katıksız bir sevgi vermemizi önlüyor. Bu sebeple çocuklarımızı severken onların canını yakmadan edemeyiz. Âdeta sevgimizi acılı kebab tadında veririz.

**Bu parçanın türü aşağıdakilerden hangisidir?**

- A) Makale
- B) Deneme
- C) Fıkra
- D) Anı

18. Ben her gün gazetede ki köşemde toplumsal ve günlük olaylarla ilgili yazılar yazıyorum. Yazılarımda olay ve gelişmelerle ilgili düşüncelerimi özgürce açıklıyorum.

**Bu parçada kendinden bu şekilde söz eden yazarın yazdığı tür aşağıdakilerden hangisidir?**

- A) Anı
- B) Günlük
- C) Fıkra
- D) Makale

19. Aşağıdaki eser – tür eşleştirmelerinden hangisi yanlıştır?

- A) Deniz Aşırı – gezi yazısı
- B) Karalama Defteri – roman
- C) Köşebaşı – tiyatro
- D) Babürname – anı

20. Anı; konu ve üslup bakımından aşağıdaki türlerden hangisiyle daha çok benzerlik gösterir?

- A) Otobiyografi
- B) Günlük
- C) Biyografi
- D) Deneme

## (628) SEÇ. TÜRK ED. – 8

1. II. Yenicilerden olan sanatçı şiiri, “İmgeye kapılarını sonuna kadar açarak edebî sanatlara özgürlük tanımak, sıradanlıktan ayrılmak, halk kültüründen uzaklaşmak, nükteden kaçmak, duyguya ve çağırışına yaslanmak, olayı atmak, aydın azınlığa seslenmek” diye tanımlamıştır.

**Bu cümlede sözü edilen sanatçı aşağıdakilerden hangisidir?**

- A) Orhan Veli Kanık
- B) Asım Bezirci
- C) Yahya Kemal Beyatlı
- D) Cahit Külebi

2. Aşağıdakilerden hangisi Beş Hececiler'den biridir?

- A) Orhan Seyfi Orhon
- B) Oktay Rifat Horozcu
- C) Melih Cevdet Anday
- D) Mehmet Akif Ersoy

3. Aşağıdaki sanatçı - eser eşleştirmelerinden hangisi yanlıştır?

- A) Turgut Uyar – Divan
- B) Ahmet Kutsi Tecer – Halay Çeken Kızlar
- C) Necip Fazıl Kısakürek – Lamelif
- D) Kemalettin Kamu – Bingöl Çobanları

4. Aşağıdaki sanatçılardan hangisi hikâye türünde eser vermemiştir?

- A) Ömer Seyfettin
- B) Halit Ziya Uşaklıgil
- C) Sait Faik Abasıyanık
- D) Orhan Veli Kanık

5. Yaş otuz beş! Yolun yarısı eder. Dante gibi ortasındayız ömrün. Delikanlı çağımızdaki cevher, Yalvarmak yakarmak nafile bugün, Gözünün yaşına bakmadan gider.

**Bu dizelerin teması aşağıdakilerden hangisidir?**

- A) Aşk
- B) Ölüm
- C) Özlem
- D) Umut

6. - - - yazdığı şiirlerle edebî gelekten kopuşu getirdi. Şiirlerinde fütürizm, kübizm ve gerçeküstücülük akımlarını denemiştir. Sanatçı serbest nazım ve toplumcu şiir anlayışının önemli temsilcilerinden biridir.

**Bu parçada boş bırakılan yere aşağıdakilerden hangisi getirilmelidir?**

- A) Ercüment Behzat Lav
- B) Arif Nihat Asya
- C) Yavuz Bülent Bakiler
- D) Orhan Veli Kanık

7. Kalkıp deftere baktı. 6 numarada Saliha Alakaş ile Ahmet Alakaş yazılıydı. Defteri kapadı. Günlük fişte 6 numaraya aynı adları yazdı. Bunlardan önce gelen adama bir ad düşündü. Kırk yıldır bir tek Zebercet bile kalmamıştı otelede. 5 numaraya “Zebercet Gezgin” yazdı.

**Bu parçada kısa bir bölümü verilen eser aşağıdakilerden hangisidir?**

- A) Kuyucaklı Yusuf
- B) Eylül
- C) Sonsuz Panayır
- D) Anayurt Oteli

8. Aşağıdakilerden hangisi Millî Edebiyat zevk ve anlayışını sürdüren şairler için söylenemez?

- A) Sade bir dil ve hece ölçüsüyle şiirler yazmışlardır.
- B) İmgeler, söz sanatları ve aşırı abartılardan kaçınmışlardır.
- C) Şiirlerinde aşk, sevgi, yurt ve memleket güzelliklerini işlemişlerdir.
- D) “Sanat, sanat içindir.” anlayışına bağlı kalmışlardır.



# 1. OTURUM

9. Sanatçı toplumcu şairlerin önde gelenlerindedir. Türkü, masal ve ağıt gibi halk kültürü unsurlarından faydalanmıştır. Şiirleri birçok kişi tarafından bestelenmiştir. Şiirlerini "Hasretinden Prangalar Eskittim" adlı eserinde toplamıştır.
- Bu parçada sözü edilen sanatçı aşağıdakilerden hangisidir?**
- A) Nazım Hikmet B) Ahmet Arif  
C) Rifat Ilgaz D) Enver Gökçe
10. Üç genç şair tarafından başlatılan bir şiir anlayışıdır. Kuralsızlığı kural edinmişlerdir. Ölçü, kafiye ve dördlüğü şiirden uzaklaştırarak serbest şiir yazmışlardır. Ironiye, alaycı tutuma ve mizahi öğelere sıkça yer vermişlerdir.
- Bu parçada sözü edilen şiir anlayışı aşağıdakilerden hangisidir?**
- A) Garipçiler (I.Yeniciler)  
B) Serbest nazım ve toplumcu şiir  
C) Millî Edebiyat zevk ve anlayışını sürdüren şiir  
D) Öz şiir
11. Faruk Nafiz Çamlıbel'le ilgili aşağıdakilerden hangisi söylenemez?
- A) Anadolu edebiyatın en tanınmış şairidir.  
B) Anadolu'nun acısına yerinde ve kuvvetli çizgilerle dokunarak halkımızın incelik ve üstünlüklerini gösteren bir edebiyat oluşturmuştur.  
C) Şiirde herhangi bir ölçüye bağlı kalmayı reddetmiştir.  
D) Sade ve sanatsız bir anlatımı tercih etmiştir.
12. Ala gözlerini sevdiğim dilber Kokuya benzettim güller içinde İnceciktir belin, hilaldir kaşın Selviye benzettim dallar içinde
- Bu dördlük konusuna göre aşağıdaki nazım türlerinin hangisine örnektir?**
- A) Ağıt B) Koçaklama  
C) Taşlama D) Güzelleme
13. Şiiri basitleştirerek duyguyu arka plana atan Garip anlayışına tepki olarak doğmuştur. Söyleyişte rahatlık yerine anlamca kapalılığı, somuta karşı soyutlamayı getirmişlerdir. Dadaizm ve sürrealizm akımları bu anlayışa kaynaklık eder.
- Bu parçada sözü edilen şiir anlayışı aşağıdakilerden hangisidir?**
- A) II.Yeniciler  
B) Beş Hececiler  
C) Öz şiir  
D) Serbest nazım ve toplumcu şiir
14. Sen benim nemsin  
Rüyalarım mısın  
Aşklarım mısın  
Azaplarım mı?  
Yoksa sen  
Gece safası mısın içimdeki?
- Bu dizeler içerik ve şekil bakımından hangi şiir anlayışının özelliklerini taşımaktadır?**
- A) Öz şiir  
B) Millî Edebiyat zevk ve anlayışını sürdüren şiir  
C) Serbest nazım ve toplumcu şiir  
D) Yedi Meşaleciler
15. Cumhuriyet Dönemi'nin başlarında hikâye ve romancılar toplumcu gerçekçi çizgiye yönelmişlerdir. Bu gerçekçilik Meşrutiyet Dönemi Osmanlı toplumunun ve gerçeklerinin konu alındığı eserlerle aşılmıştır.
- Aşağıdakilerden hangisi bu eserlere örnek gösterilemez?**
- A) Hüküm Gecesi  
B) Sodom ve Gomore  
C) Sinekli Bakkal  
D) İstanbul Hatırası
16. Doğu edebiyatına özgü motiflerin kullanıldığı romanda, verilen her değer simgesel özellikler taşımaktadır. Şeyh Galip'in Hüsn ü Aşk'ına, Binbir Gece Masalları'na, Attar'ın Mantku't Tayr'ına, Mevlana'nın Mesnevi'sine kadar geleneksel metinlerin anlatım biçimleri romanın temelini oluşturmaktadır. Sonuç olarak bu eser geleneksel anlatı türlerinden yararlanılarak ortaya konmuştur.
- Bu parçada tanıtılan roman aşağıdakilerden hangisidir?**
- A) Yeni Hayat B) Kara Kitap  
C) Devlet Ana D) Tutunamayanlar
17. Türk edebiyatında modern anlatım teknikleri, ruh bilimsel ve bireyin iç dünyasına yönelik konuları ile dikkati çeken romancılardan biridir. "Aylak Adam"daki başarısını geliştirerek sürdürmüştür.
- Bu parçada bahsedilen yazar aşağıdakilerden hangisidir?**
- A) Yusuf Atılgan B) Orhan Pamuk  
C) Oğuz Atay D) Adalet Ağaoğlu
18. Gönül gurbet ele çıkma  
Ya gelinir ya gelinmez  
Her dilbere meyil verme  
Ya sevilir ya sevilmez
- Bu dizelerle ilgili aşağıdakilerden hangisi yanlıştır?**
- A) 11'li hece ölçüsüyle oluşturulmuştur.  
B) Semai nazım biçiminin özelliklerini taşımaktadır.  
C) Aşk teması işlenmiştir.  
D) Uyak düzeni "abab" şeklindedir.
19. Aşağıdakilerden hangisi 1980 sonrası şiir anlayışı için söylenemez?
- A) "Aslolan şiirdir." düşüncesi hâkimdir.  
B) İnsani duyarlılık ve evrensel deneyimler şiirin gözde değerleri kabul edilmiştir.  
C) Şiir düzyazıya yaklaştırılmıştır.  
D) Ideolojik şiir yazmak asıl amaçtır.
20. Aşağıdakilerden hangisi Yedi Meşale üyelerinden değildir?
- A) Sabri Esat Siyavuşgil  
B) Necip Fazıl Kısakürek  
C) Yaşar Nabi Nayır  
D) Vasfi Mahir Kocatürk

## (711) İSLAM TARİHİ – 1

1. Aşağıdakilerden hangisi ilk dönem İslam Tarihi genel kaynaklarından biri değildir?
- A) Kuran-ı Kerim  
B) Hadis Kitapları  
C) Genel Tarih Eserleri  
D) Efsaneler
2. İslamiyet öncesi Arap Yarımadası'nda insanların hayat anlayışına ne ad verilmiştir?
- A) Cahiliye Dönemi  
B) Asrı Saadet Dönemi  
C) Fetret Dönemi  
D) Kurtuluş Dönemi
3. İslam öncesinde Allah'ın birliğine inanan, putperestliği reddeden ve Kureys'in yanlış inançlarına karşı çıkan kimselere ne isim verilmiştir?
- A) Bedevi B) Hanif  
C) Mevali D) Hadari

# 1. OTURUM

4. Aşağıdakilerden hangisi İslam öncesi Arabistan'da görülen gelişmelerden biri değildir?

- A) Kan davaları oldukça yaygındır.
- B) Toplumda sınıf ayrımı vardır.
- C) Kabileler arasında üstünlük mücadelesi vardır.
- D) Merkeziyetçi devlet anlayışı vardır.

5. Hz. Muhammed (sav.) aşağıdaki şehirlerden hangisinde doğmuştur?

- A) Mekke
- B) Medine
- C) Taif
- D) Kudüs

6. Hz. Muhammed (sav.) üç yıl süren gizli davet döneminden sonra nazil olan ayet gereği öncelikle kimlere açıktan davete başlamıştır?

- A) Komşularına
- B) Muhacirlere
- C) Yakın akrabalarına
- D) Kendi kabilesine

7. Mekke müşrikler tarafından işkenceyle şehit edilen ilk kadın sahabe aşağıdakilerden hangisidir?

- A) Hz. Havva
- B) Hz. Sümeyye
- C) Hz. Asiye
- D) Hz. Meryem

8. Müslümanlara yapılan işkencelerin artması üzerine Hz. Peygamberin ".... ülkesine gidebilirsiniz. Zira orada kimseye zulmetmeyen bir hükümdar var. Orası doğruluk ve hakikat yurdu. Allah bir kolaylık verene kadar orada kalın." dediği hükümdar, aşağıdakilerden hangisidir?

- A) Heraklyus
- B) İskender
- C) Necaşi
- D) Kutluk

9. Resulullah'ın inşa ettiği ilk mescid aşağıdakilerden hangisidir?

- A) Mescidi Nebi
- B) Mescidi Dırar
- C) Mescidi Akşa
- D) Kuba Mescidi

10. Aşağıdakilerden hangisi Mekke müşrikler ile yapılan savaşlardan biri değildir?

- A) Mute Savaşı
- B) Bedir Savaşı
- C) Uhud Savaşı
- D) Hendek Savaşı

11. İslam Devleti'nde hazine "Beytülmal" hangi halife döneminde kurulmuştur?

- A) Hz. Ebu Bekir
- B) Hz. Ömer
- C) Hz. Osman
- D) Hz. Ali

12. Hendek Savaşı'nda Hz. Peygamberin ashabıyla istişaresi sonucu Medine'nin savunmasız kısımlarına hendekler kazılmasını öneren sahabe aşağıdakilerden hangisidir?

- A) Abdullah bin Cübeyr
- B) Hz. Hamza
- C) Selman-ı Farisi
- D) Zeyd bin Harise

13. Hz. Peygamber, hastalığı döneminde iyice ağırlaşmış mescide çıkamaz duruma geldiğinde namazları kimin kıldırmasını emretmiştir?

- A) Hz. Ömer
- B) Hz. Zeyd
- C) Hz. Ebu Bekir
- D) Halit bin Velit

14. Ümeyyegoğulları'nın İslam Devleti'nin idaresini ele geçirecek Muaviye'nin halife olmasıyla kurulan devlet aşağıdakilerden hangisidir?

- A) Emevi Devleti
- B) Abbasi Devleti
- C) Samanoğulları Devleti
- D) Endülüs Emevi Devleti

15. Hz. Ebu Bekir Dönemi'nde ortaya çıkan savaşlarda Kuran-ı Kerim'i ezbere bilen çok sayıda sahabe şehit olmuştur.

**Bu durum aşağıdakilerden hangisinin gerekliliğini ortaya koymuştur?**

- A) Kuran'ın toplanıp kitap haline getirilmesini
- B) Divan teşkilatının kurulmasını
- C) Fetih hareketlerinin sonlandırılmasını
- D) Dinden dönenlerle mücadele edilmesini

16. Aşağıdakilerden hangisi Hz. Osman Dönemi'nde gerçekleşen olaylardan birisidir?

- A) Kudüs'ün fethi
- B) İlk ordu teşkilatının kurulması
- C) Ordugâh şehirlerin kurulması
- D) Kuran-ı Kerim'in çoğaltılması

17. Aşağıdakilerden hangisi İslam tarihinin ana kaynağını oluşturur?

- A) Vesikalar
- B) Kitabeler
- C) Kuran-ı Kerim
- D) Siyer kitapları

18. Emeviler Dönemi'nde genel olarak Müslümanlar arasında barış havasının hakim olduğu ve meydana gelen bölünmüşlüklerin giderilmeye çalışıldığı dönem aşağıdakilerden hangisidir?

- A) II. Muaviye dönemi
- B) Hişam dönemi
- C) Ömer B. Abdülaziz dönemi
- D) I. Velid dönemi

19. Hz. Osman'ın şehadetinden sonra halife olarak aşağıdakilerden hangisi seçilmiştir?

- A) Hz. Ebu Bekir
- B) Hz. Ali
- C) Muaviye
- D) Hz. Ömer

20. İslam mimarisi açısından önemli bir yere sahip olan Kurtuba Ulu Camii aşağıdaki devletlerden hangisi döneminde inşa edilmiştir?

- A) Memlükler
- B) Endülüs Emevi Devleti
- C) Osmanlı Devleti
- D) Abbasi Devleti

## (813) AKAİD VE KELAM – 1

1. Sözlükte; yol, hüküm, itaat, mükâfat ve ceza anlamına gelir. Terim olarak, esasları ve usulleri Allah tarafından belirlenmiş yol demektir.

**Tanımlanan kavram aşağıdakilerden hangisidir?**

- A) Kelam
- B) Din
- C) Fıkıh
- D) Hadis

2. • İnsanlar arasındaki hukuki, beşeri ve sosyal ilişkileri düzenleyen hükümlerdir.

• Esasları Kur'an ve sünnette vardır.

**Özellikleri verilen kavram aşağıdakilerden hangisidir?**

- A) İbadet
- B) İnanç
- C) İtikat
- D) Muâmelat

## 1. OTURUM

3. "Göklerde ve yerde ne varsa, O'nundur, din de yalnız O'nundur. O halde Allah'tan başkasından mı korkuyorsunuz?"  
(Nahl suresi, 52. ayet)

**Bu ayetten aşağıdakilerden hangisine ulaşamaz?**

- A) Her şeyin yaratıcısı Allah'tır.  
B) Dinin sahibi yalnızca Allah'tır.  
C) Allah'tan başkasına kulluk edilmez.  
D) Allah'ın gönderdiği son kitap Kur'an'dır.
4. **Aşağıdakilerden hangisi akaid ve kelamın amaçları arasında yer almaz?**
- A) İnanç ilkelerini belirlemek  
B) İnanç ilkelerini savunmak  
C) İnanç ilkelerini anlamak ve yorumlamak  
D) İnanç ilkelerini delillendirmek ve ispat etmek
5. Öğretmen, Akaid ve Kelam dersinde öğrencilerine; "Mü'min olmak için sadece bilmek yeterli olsaydı Yahudi ve Hristiyanlar'ın Hz. Peygamber'i, Şeytan'ın da Allah'ı bildiği için mü'min olmaları gerekirdi." demiştir. **Buna göre öğretmen aşağıdaki kavramlardan hangisini vurgulamaktadır?**
- A) Din  
B) İman  
C) Ahlak  
D) İbadet
6. **Aşağıdakilerden hangisi imanın çeşitlerinden değildir?**
- A) İcmalî  
B) Tafsilî  
C) Tahkikî  
D) Tevkifi
7. Kalbinde zerre ölçüsü iman olduğu halde "Allah'tan başka ilah yoktur. Muhammed onun elçisidir." diyen kimse cehennemden çıkar. **Bu hadisten, aşağıdakilerden hangisi çıkarılamaz?**
- A) İmanda ikrar önemlidir.  
B) İman eden kimseler cennetle ödüllendirilecektir.  
C) İman eden kimseler asla cehenneme girmezler.  
D) İman edenler cehennemde ebedi kalmayacaktır.

8. İbrahim ölümü nasıl dirilttiğini göstermesini Yüce Allah'tan istemiş, Yüce Allah'ın "inanmadın mı?" sorusuna, "Hayır! İnandım fakat kalbimin mutmain olması için (görmek istedim)." cevabını vermiştir.

**Anlatılan bu olay, iman konusunda aşağıdakilerin hangisine delil oluşturur?**

- A) İmanın artması ve eksilmesine  
B) İmanda tasdik ve ikrar ilişkisine  
C) İman ve amel ilişkisine  
D) İman ve İslam ilişkisine
9. **Allah'a, Hz. Peygamber'e ve onun haber verdiği şeylere kalpten inanan, onları kabul ve tasdik eden kimseye ne ad verilir?**
- A) Müşrik  
B) Münafık  
C) Mümin  
D) Kâfir
10. Büyük günah işleyen kimsenin iman açısından durumu, kelam mezhepleri arasında önemli bir tartışma konusudur. **Buna göre, aşağıdakilerden hangisi Mutezile mezhebinin bu konudaki görüşüdür?**
- A) Büyük ve küçük günah ayrımı yoktur, günah işleyen herkes imanını kaybeder.  
B) Büyük günah işleyen kimse imanını kaybeder, fâsık adını alır ancak küfre de girmez.  
C) Büyük günah işleyen kimseler asla cennete giremez.  
D) Büyük günah işleyen kimse dinde çıkmaz.
11. "De ki: O, Allah birdir. Allah sameddir. O, doğurmamış ve doğmamıştır. O'nun hiç bir dengi yoktur."  
(İhlas suresi, 1-4.ayetler)
- Bu surede, aşağıdaki kavramlardan hangisi vurgulanmıştır?**
- A) Tevhit  
B) İslam  
C) Tasdik  
D) İman
12. "O halde sen, batıl dinlerden uzaklaşarak yüzünü ve özünü, hak din olan İslam'a yönelt. Yani Allah'ın insanları yaratmasında esas kıldığı o fitrata uygun hareket et..."  
(Rum suresi, 30. ayet)
- Bu ayette aşağıdakilerden hangisine değilmiştir?**
- A) Batıl dinlerden uzaklaşmak gerekir.  
B) İnsanın yönelişi Allah'a olmalıdır.  
C) İnsanlar yaratılış gereği inanmaya yatkındır.  
D) Allah emir ve yasaklarını peygamberlerle bildirmiştir.

13. **Âlemin varlığının zorunlu değil mümkün olduğu fikrinden yola çıkarak ortaya konan delil aşağıdakilerden hangisidir?**

A) Akli delil  
B) İmkân delili  
C) Gaye ve nizam delili  
D) Nakli delil

14. **Aşağıdakilerden hangisi Allah'ın zâtî sıfatlarından biri değildir?**

A) Vücut  
B) Kıdem  
C) Semi  
D) Bekâ

15. "De ki: Rabbim'in sözleri için derya mürekkep olsa ve bir o kadar da ilave getirsek dahi Rabbim'in sözleri bitmeden önce deniz tükenecektir."  
(Kehf suresi, 109.ayet)

**Bu ayet, Allah'ın sıfatlarından hangisine işaret etmektedir?**

A) Kelam  
B) Hayat  
C) Tekvin  
D) İrade

16. **Aşağıdakilerden hangisi Kur'an-ı Kerim ve hadislerde meleklerin özellikleri hakkında verilen bilgiler arasında yer almaz?**

A) Nurdan yaratılmış varlıklardır.  
B) İnsanlardan önce yaratılmışlardır.  
C) Gözle görülemezler, erkeklik ve dişilikleri yoktur.  
D) Kendi suretlerinden başka bir surete bürünemezler.

17. **Tabiat olaylarıyla görevli melek aşağıdakilerden hangisidir?**

A) Mikâil  
B) Azrail  
C) Cebrail  
D) İsrâfil

18. **Cinlerin özellikleri ile ilgili aşağıdaki bilgilerden hangisi yanlıştır?**

A) Gaybı bilemezler.  
B) Ateşten yaratılmışlardır.  
C) Erkeklik ve dişilikleri yoktur.  
D) Gözle görülmeyen varlıklardır.

19. • Genellikle Yahudi ve Hristiyanlara denir.

• Tevrat, Zebur ve İncil'e inanan kimseler için kullanılır.

**Özellikleri verilen kavram aşağıdakilerden hangisidir?**

A) Kâfir  
B) Ehl-i kitap  
C) Ehl-i beyt  
D) Müşrik

## 1. OTURUM

20. Aşağıdakilerden hangisi akaid ve kelam ilminin kaynaklarını oluşturur?

- A) Fıkıh ve tasavvuf
- B) İlim ve hikmet
- C) Örf ve âdetler
- D) Akıl ve vahiy

### (931) SİYER – 1

1. İslam öncesinde Hz. İbrahim'in tebliğ ettiği inancı benimseyerek Allah'ın birliğine inanan kimseler aşağıdakilerden hangisiyle isimlendirilir?

- A) Müslüman
- B) Ehl-i Kitap
- C) Mecusi
- D) Hanif

2. Hz. Ayşe, Hz. Peygamber hakkında "Onun ahlakı Kur'an'dır." demiştir.

Aşağıdaki hadislerden hangisi Hz. Ayşe'nin bu sözüyle anlamca aynı doğrultudadır?

- A) Beni Rabbim terbiye etti, ne güzel terbiye etti.
- B) Sizin en hayırlınız ahlakça en güzel olanınızdır.
- C) İnsanların en hayırlısı Kur'an'ı öğrenen ve öğretendir.
- D) Hiçbir baba evladına güzel ahlak-tan daha üstün bir miras bırakmamıştır.

3. Aşağıdakilerden hangisi Hz. Peygamber'in hayatıyla ilgili günümüz yazar ve eserlerinden biri değildir?

- A) Mevlâna Şibli - Asr-ı Saadet
- B) Vâkîdî - Kitab'ül Meğazi
- C) M. Asım Köksal - İslam Tarihi
- D) Muhammed Hamidullah - İslam Peygamberi

4. • Köy, kasaba ve şehirlerde yerleşik hayat yaşayanlardır.  
• Medine ve Taif'te yaşayanlar tarımla, Mekke'de yaşayanlar ise ticaretle meşgul olmuştur.

Bu şekilde hayat süren Araplar aşağıdakilerden hangisiyle isimlendirilir?

- A) Bedevi
- B) Hadari
- C) Kabile
- D) Mevâli

5. Aşağıdakilerden hangisi soyları devam eden Araplara verilen isimlerden biri değildir?

- A) Arab-ı bâide
- B) Arab-ı bakiye
- C) Arab-ı âribe
- D) Arab-ı müsta'ribe

6. Aşağıdakilerden hangisi İslam öncesi Arap yarımadasında yaygın olan dinlerden biri değildir?

- A) Putperestlik
- B) Yahudilik
- C) Mecusilik
- D) Tektanrıcılık

7. Dayanışmanın gerekli olduğu çöl şartlarının doğal bir sonucu olarak ortaya çıkar. Aynı zamanda dış tehlikelere karşı koymak veya saldırı yapmak gerektiğinde bütün kabile üyelerinin harekete geçmesini sağlayan birlik ve dayanışma ruhudur.

Hakkında bilgi verilen kavram aşağıdakilerden hangisidir?

- A) Hadarîlik
- B) Bedevilik
- C) Asabiyyet
- D) Kölelik

8. Aşağıdakilerden hangisi İslam öncesi Arap yarımadasındaki sosyal sınıflardan biri değildir?

- A) Hürler
- B) Tüccarlar
- C) Mevali
- D) Köleler

9. İslam öncesinde azat edilen kölelere denir. Kölelerle hürler arasında bir sınıftır. Bunlar köleler gibi alınıp satılmaz fakat hürler gibi de değildir.

Özellikleri verilen sosyal sınıf aşağıdakilerden hangisidir?

- A) Çiftçiler
- B) Tüccarlar
- C) İşçiler
- D) Mevâli

10. Aşağıdakilerden hangisi, İslam öncesi döneme ait sözlü edebiyat örnekleri arasında yer almaz?

- A) Meseller
- B) Darb-ı meseller
- C) Mekâtip
- D) Ahbâr

11. Sözlükte, yol ve hayat tarzı anlamlarına gelir. Terim olarak ise Hz. Peygamber'in doğumundan vefatına kadar hayatını konu alan ilmin adıdır.

Bu tanım aşağıdaki kavramlardan hangisine aittir?

- A) Tarih
- B) Siyer
- C) Fıkıh
- D) Hadis

12. Aşağıdakilerden hangisi Hz. Peygamberin amcalarındandır?

- A) Abdullah - Hâşim
- B) Kasım- Ebu Bekir
- C) Haris - Abbas
- D) Abdulmuttalib - Halit

13. Yeğeni Muhammed'i kendi öz çocuğu gibi severdi. Bir yere gittiği zaman onu da beraberinde götürürdü. O, ölümüne dek, kırk yıldan fazla Hz. Muhammed'e öz babası gibi davranmış, onu sevmiş ve yetişmesi için elinden geleni yapmıştır.

Hz. Peygamberin metinde bahsedilen yakını aşağıdakilerden hangisidir?

- A) Ebu Tâlib
- B) Abdulmuttalib
- C) Hamza
- D) Ebu Leheb

14. Hz. Muhammed (sav.) kendisine peygamberlik gelmeden önce ticaretle meşgul olmuş ve bu sayede bazı kazanımlar elde etmiştir.

Aşağıdakilerden hangisi bu kazanımlardan biri değildir?

- A) Sosyal yönü gelişmiş, iletişim kurma yollarını öğrenmiştir.
- B) Toplumların örf ve adetleri hakkında bilgi sahibi olmuştur.
- C) Hilful fudul cemiyetinde yer almıştır.
- D) Alış-veriş usullerini öğrenmiştir.

15. Hz. Muhammed'e (sav.) ilk vahiy nerede ve kaç yılında gelmiştir?

- A) Mekke - 610
- B) Medine - 610
- C) Taif - 612
- D) Hicaz - 612

16. "Fetretü'l-vahiy" kavramının açıklanması aşağıdakilerden hangisidir?

- A) Vahyin insan doğasıyla uyumlu olması
- B) İlk vahyin ardından bir süre vahiy gelmemesi
- C) Vahyin Mekke'den sonra Medine'de devam etmesi
- D) Vahyin Cebrail (a.s.) tarafından Hz. Muhammed'e iletilmesi

17. Aşağıdaki isimlerden hangisi ilk Müslümanlar arasında yer almaz?

- A) Hz. Ali
- B) Zeyd b. Harise
- C) Ömer b. Abdulaziz
- D) Hz. Ebu Bekir

# 1. OTURUM

18. Müşriklerin İslam'ı kabul etmemelerinin en temel nedeni aşağıdakilerden hangisidir?

- A) Ekonomik sebepler
- B) Kabileler arası rekâbet
- C) Ahiret inancından yoksun olmaları
- D) Dini inançları ve atalarına olan bağlılık

19. Müslümanlara yönelik boykotun bitmesinden sonra Hz. Peygamber'i ve Müslümanları çok etkileyen iki önemli vefat olmuştur. Bunlardan biri Ebu Talib'in, diğeri ise Hz. Hatice'nin vefatıdır.

**Bu olayların gerçekleştiği yıl İslam Tarihi'nde aşağıdakilerden hangisiyle isimlendirilmiştir?**

- A) Hüzün yılı
- B) Boykot yılı
- C) Zorluklar yılı
- D) Vüfüt yılı

20. • Beş vakit namaz farz kılınmıştır.  
• Bakara suresinin son iki ayeti nâzil olmuştur.  
• Şirke koşmamak koşuluyla ümmet-i Muhammed'in cennete gideceği müjdelenmiştir.

**Bu müjdeler Hz. Muhammed'e (sav.) aşağıdaki kutsal gecelerin hangisinde verilmiştir?**

- A) Regaib
- B) Miraç
- C) Berat
- D) Kadir

## (974) GİRİŞİMCİLİK – 1

1. İhtiyaçlar hiyerarşisine göre insanın fizyolojik ihtiyaçlarından sonra ortaya çıkan ihtiyacı aşağıdakilerden hangisidir?

- A) Güvenlik ihtiyacı
- B) Saygı ihtiyacı
- C) Başarma ihtiyacı
- D) Sevgi ve ait olma ihtiyacı

2. Müteşebbis ile ilgili verilen bilgilerden hangisi yanlıştır?

- A) Kâr amacı güder.
- B) Örgütsel birimler oluşturur.
- C) Mal ve hizmet üretimi yapar.
- D) Doğabilecek risklerden uzak durur.

3. Üretim sırasında doğrudan kullanılmayan mallara ne denir?

- A) Yardımcı araçlar
- B) İşletme gereçleri
- C) Yatırım donatım malları
- D) Üretim gereçleri ve parçaları

4. Aşağıdakilerden hangisi müteşebbisliğin en önemli özelliklerden birisidir?

- A) Uyumluluk
- B) Kararlılık
- C) İş bitiricilik
- D) İnişiyatif kullanma

5. Aşağıdakilerden hangisi müteşebbislerin teminat altına alınmış haklarından biri değildir?

- A) İsteddiği kâr elde etme hakkı
- B) Sözleşme yapma hakkı
- C) Meslek seçme hakkı
- D) Mülkiyet hakkı

6. Üretim yönetimi dönüşüm sürecinde aşağıdakilerden hangisi çıktı olarak kabul edilir?

- A) Emek
- B) Sermaye
- C) Girişimci
- D) Hizmetler

7. Aşağıdakilerden hangisi talebin özelliklerinden biri değildir?

- A) Satın alma gücü
- B) Piyasanın olması
- C) Satın alma isteğinin var olması
- D) Geniş bir zaman dönemini kapsaması

8. Etkili denetimin ilkelerine aykırı bir açıklama hangi seçenekte verilmiştir?

- A) Denetleme gizli olmalıdır.
- B) Denetleme esnek olmalıdır.
- C) Denetleme şekli işletmeye uygun olmalıdır.
- D) Denetlenme standartları önceden belirlenmelidir.

9. Bir işletmenin kuruluş sürecinde, projenin niteliğine göre kuruluş ve konum yeri durumu, fabrika binası, üretim teçhizatı, güvenlik araştırması, doğal afet ve çevre kirliliği gibi konularda yapılan araştırma türü aşağıdakilerden hangisidir?

- A) Ekonomik araştırma
- B) Teknik araştırma
- C) Mali araştırma
- D) Yasal araştırma

10. Satış sürecinin sunuş aşamasıyla ilgili verilen bilgilerden hangisi yanlıştır?

- A) Dikkat çekme
- B) İlginin isteğe dönüşmesi
- C) İsteğin arza dönüşmesi
- D) Satışın gerçekleştirilmesi

11. Mal ve hizmet üretiminde insanların sarf ettikleri bedensel ve zihinsel çabalara ne denir?

- A) Emek
- B) Rant
- C) Ücret
- D) Fayda

12. Aşağıdakilerden hangisi üretim faktörlerinden değildir?

- A) Emek
- B) Mal
- C) Tabiat
- D) Sermaye

13. Aşağıdakilerden hangisi müteşebbislerde olması gereken özelliklerden değildir?

- A) Kararlılık
- B) Tutarlılık
- C) Riski göze alabilme
- D) Sorumluluktan kaçınma

14. İşletme kurma sürecinde devlet teşvikleri ve alınması gereken izinler, hangi araştırmaları kapsar?

- A) Ekonomik araştırmaları
- B) Teknik araştırmaları
- C) Yasal araştırmaları
- D) Mali araştırmaları

15. Girişimcilerin üretim elemanlarını bir araya getirip kâr amacıyla mal ve hizmet üretmek için oluşturdukları hukuki, mali ve örgütsel yapılar ne ad verilir?

- A) Girişim
- B) Fabrika
- C) Dükkân
- D) Mağaza

16. Aşağıdakilerden hangisi işletmenin özel amaçlarındandır?

- A) Kâr sağlamak
- B) Topluma hizmet etmek
- C) İşletmenin yaşamını devam ettirmek
- D) Mal ve hizmet kalitesini sürekli arttırmak

## 1. OTURUM

17. Aşağıdakilerden hangisi işletmelerin temel işlevlerinden biridir?

- A) Koordinasyon
- B) Pazarlama
- C) Planlama
- D) Denetim

18. Aşağıdakilerden hangisi girişimcilerin ekonomik hayattaki önemini vurgular?

- A) Toplumla hizmet ederek sosyal yarar sağlaması
- B) Pazardaki şartları günün koşullarına uyarlaması
- C) İnsan yaşamını kolaylaştıran yenilikler çıkarması
- D) İnsan ihtiyaçlarını karşılayacak mal ve hizmet üretmesi

19. Başka mal ya da hizmet üretiminde kullanılan mallara üretim malları denir.

**Bu tanıma göre aşağıdakilerden hangisi üretim mallarına örnek olur?**

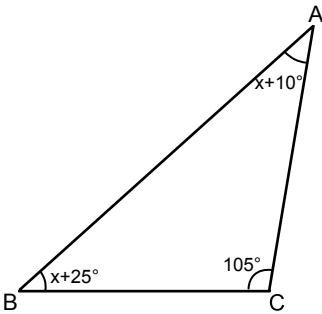
- A) Torna tezgâhı
- B) Cep telefonu
- C) Makarna
- D) Elbise

20. İşletme kurma sürecinde, ön proje çalışmalarından kârlılık ve verimlilik sağlanacağı sonucu çıktığında hangi aşamaya geçilir?

- A) Ön araştırmalara
- B) Deneme üretimine
- C) Kesin projeye
- D) Ön projeye

### (999) MATEMATİK – 2

1.

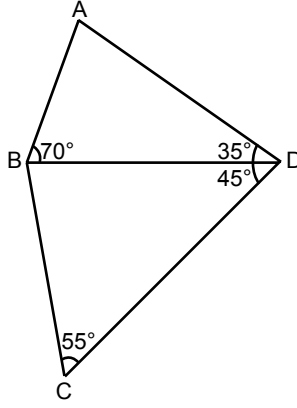


Şekildeki ABC üçgeninde  $m(\widehat{BAC}) = x + 10^\circ$ ,  $m(\widehat{ACB}) = 105^\circ$  ve  $m(\widehat{CBA}) = x + 25^\circ$  dir.

**Buna göre  $m(\widehat{CBA})$  kaç derecedir?**

- A) 45
- B) 40
- C) 35
- D) 30

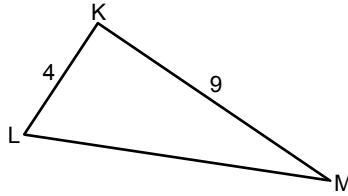
2.



**Şekilde verilenlere göre en uzun kenar aşağıdakilerden hangisidir?**

- A) [CB]
- B) [BA]
- C) [AD]
- D) [DC]

3.

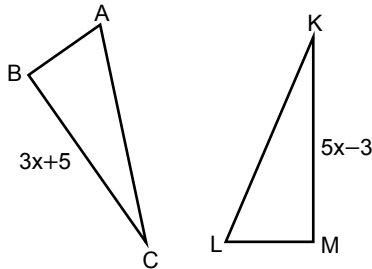


Şekildeki KLM üçgeninde  $|KL| = 4$  cm ve  $|KM| = 9$  cm 'dir.

**Buna göre  $|LM|$ 'nin alabileceği en küçük tam sayı değeri kaç santimetredir?**

- A) 4
- B) 5
- C) 6
- D) 7

4.



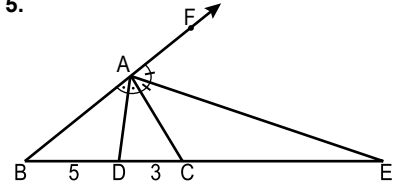
Şekilde  $\widehat{ABC} \cong \widehat{LMK}$  'tir.

$|BC| = (3x + 5)$  cm ve  $|KM| = (5x - 3)$  cm 'dir.

**Buna göre  $|BC|$  kaç santimetredir?**

- A) 15
- B) 17
- C) 20
- D) 21

5.

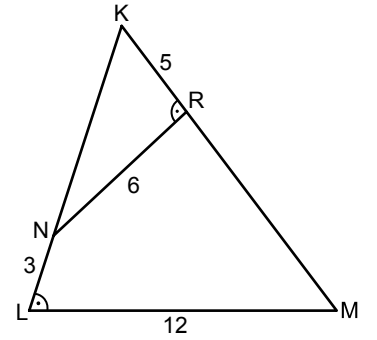


Şekildeki ABE üçgeninde  $m(\widehat{BAD}) = m(\widehat{DAC})$ ,  $m(\widehat{CAE}) = m(\widehat{EAF})$  ve  $|BD| = 5$  cm,  $|DC| = 3$  cm 'dir.

**Buna göre  $|CE|$  kaç santimetredir?**

- A) 8
- B) 9
- C) 10
- D) 12

6.

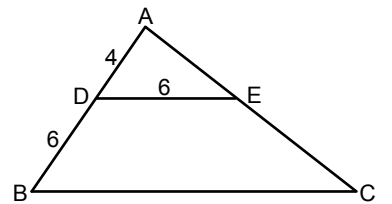


Şekildeki KLM üçgeninde  $m(\widehat{NRK}) = m(\widehat{KLM})$ ,  $|NL| = 3$  cm,  $|NR| = 6$  cm,  $|LM| = 12$  cm ve  $|RK| = 5$  cm 'dir.

**Buna göre  $|RM|$  kaç santimetredir?**

- A) 5
- B) 7
- C) 9
- D) 11

7.



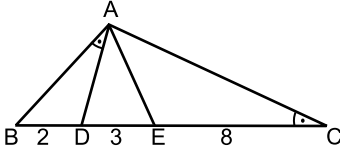
Şekildeki ABC üçgeninde  $[DE] \parallel [BC]$  ve  $|AD| = 4$  cm,  $|DB| = |DE| = 6$  cm 'dir.

**Buna göre  $|BC|$  kaç santimetredir?**

- A) 15
- B) 12
- C) 10
- D) 8

# 1. OTURUM

8.



Şekildeki ABC üçgeninde  
|BD| = 2 cm, |DE| = 3 cm,

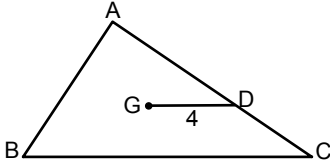
|EC| = 8 cm, |AD| = |AE| ve

$m(\widehat{BAD}) = m(\widehat{ACE})$  'tir.

**Buna göre ADE üçgeninin çevresi kaç santimetredir?**

- A) 13 B) 11 C) 10 D) 9

9.



Şekildeki ABC üçgeninde G ağırlık merkezidir.

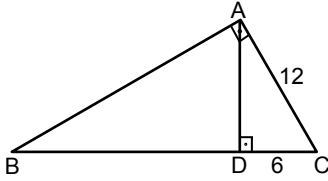
$D \in [AC]$ , |GD| = 4 cm ve

$[GD] \parallel [BC]$  'dir.

**Buna göre |BC| kaç santimetredir?**

- A) 8 B) 9 C) 10 D) 12

10.



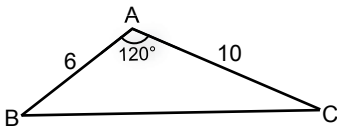
Şekildeki ABC üçgeninde  
 $[BA] \perp [AC]$ ,  $[AD] \perp [BC]$ ,

|AC| = 12 cm ve |DC| = 6 cm 'dir.

**Buna göre |BD| kaç santimetredir?**

- A) 18 B) 15 C) 12 D) 9

11.



Şekildeki ABC üçgeninde

$m(\widehat{BAC}) = 120^\circ$ , |AB| = 6 cm ve

|AC| = 10 cm 'dir.

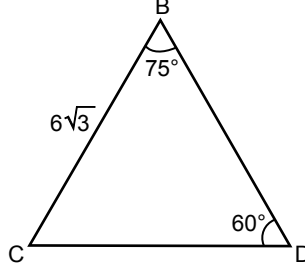
**Buna göre |BC| kaç santimetredir?**

- A) 11 B) 12 C) 14 D) 15

12.  $\tan 135^\circ + \cos 120^\circ$  işleminin sonucu kaçtır?

- A)  $-\frac{3}{2}$  B)  $-\frac{1}{2}$   
C)  $\frac{1}{2}$  D)  $\frac{3}{2}$

13.



Şekildeki BCD üçgeninde

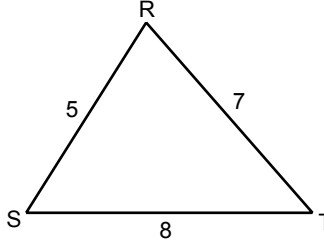
$m(\widehat{CDB}) = 60^\circ$ ,  $m(\widehat{DBC}) = 75^\circ$  ve

|BC| =  $6\sqrt{3}$  cm 'dir.

**Buna göre |BD| kaç santimetredir?**

- A)  $6\sqrt{3}$  B)  $6\sqrt{2}$   
C)  $3\sqrt{3}$  D)  $3\sqrt{2}$

14.



Şekildeki RST üçgeninde

|RS| = 5 cm, |ST| = 8 cm ve

|TR| = 7 cm 'dir.

**Buna göre  $A(\widehat{RST})$  kaç santimetrekaredir?**

- A)  $7\sqrt{3}$  B)  $8\sqrt{3}$   
C)  $10\sqrt{3}$  D)  $12\sqrt{3}$

15. B, C, D, E, F noktaları aynı düzlemde farklı noktalardır.

**Buna göre  $\vec{BC} + \vec{CD} + \vec{DE} + \vec{EF}$  aşağıdaki vektörlerden hangisine eşittir?**

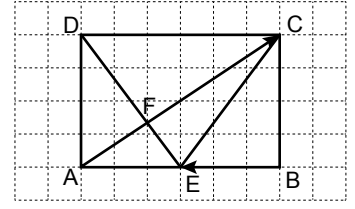
- A)  $\vec{BC}$  B)  $\vec{BD}$   
C)  $\vec{BE}$  D)  $\vec{BF}$

16. L(-5) ve M(6) noktaları veriliyor.

**Buna göre  $|\vec{LM}|$  kaç birimdir?**

- A) 11 B) 10 C) 2 D) 1

17.



Şekilde  $[AC] \cap [DE] = \{F\}$  'tir.

**Buna göre  $\vec{AC} + \vec{BE}$  aşağıdakilerden hangisidir?**

- A)  $\vec{AE}$  B)  $\vec{AD}$   
C)  $\vec{DE}$  D)  $\vec{EC}$

18. 4, 2, 3, 2, 3, 5, 2, 5, 6 veri grubunun tepe değeri kaçtır?

- A) 2 B) 3 C) 5 D) 6

19. Bir dersten geçmek için 4 sınavdan alınan notların ortalaması en az 50 olmalıdır.

**İlk 3 sınavdan aldığı notların ortalaması 45 olan bir öğrencinin bu dersten geçebilmesi için 4. sınavdan alması gereken not en az kaç olmalıdır?**

- A) 60 B) 65 C) 70 D) 75

20. Havaya atılan hilesiz bir zarın üst yüzüne gelecek sayının 3'ten büyük veya çift sayı olma olasılığı kaçtır?

- A)  $\frac{1}{6}$  B)  $\frac{1}{3}$  C)  $\frac{2}{3}$  D)  $\frac{5}{6}$

**TEST BİTTİ.  
CEVAPLARINIZI KONTROL  
EDİNİZ.**

## CEVAP KÂĞIDI VE SORU KİTAPÇIĞI İLE İLGİLİ AÇIKLAMALAR

1. Cevap kâğıdınızdaki bilgilerin doğruluğunu kontrol ediniz ve cevap kâğıdınızı mürekkepli kalemle imzalayınız.
2. Cevap kâğıdı üzerinde kodlamalarınızı siyah kurşun kalemle yapınız.
3. Değiştirmek istediğiniz bir cevabı, yumuşak silgiyle cevap kâğıdını örselemeden temizce siliniz ve yeni cevabınızı kodlayınız.
4. Soru kitapçığının sayfalarını görevlilerin uyarıları doğrultusunda kontrol ediniz, baskı hatası var ise değiştirilmesini sağlayınız.
5. Soruların çözümü için size ayrıca boş kâğıt verilmeyecektir. Soru kitapçığının içindeki boş alanları soru çözümleri için kullanabilirsiniz.
6. Her sorunun dört seçeneğinden sadece biri doğrudur. Doğru seçeneği, cevap kâğıdınızın ilgili sütununa soru numarasını dikkate alarak yuvarlağın dışına taşırmadan kodlayınız. Soru kitapçığı üzerinde yapılan cevaplandırmalar dikkate alınmayacaktır.
7. Cevaplamaya istediğiniz dersin sorusundan başlayabilirsiniz. Cevabını bilmediğiniz sorular üzerinde fazla zaman kaybetmeden diğer sorulara geçiniz. Zamanınız kalırsa bu sorulara daha sonra dönebilirsiniz.
8. Yanlış cevaplarınız dikkate alınmadan sadece doğru cevaplarınız üzerinden puanlama yapılacaktır.
9. Soruları ve sorulara verdiğiniz cevapları, yanınızda götürmek amacıyla kaydetmeyiniz; hiçbir şekilde dışarı çıkarmayınız.
10. Sınav bitiminde soru kitapçığı ve cevap kâğıdını salon görevlilerine teslim ediniz.

## SALON GÖREVLİLERİNCE SINAV BAŞLAMADAN ÖNCE ADAYLARA YAPILACAK SON UYARILAR

- Soracağınız bir şey varsa şimdi sorunuz, sınav başladıktan sonra sorularınıza cevap verilmeyecektir.
- Başlama zilini bekleyiniz.

*Hepinize başarılar dileriz.*

(Salon başkanı başlama ve bitiş saatini tahtaya yazacaktır.)

Bu kitapçığın her hakkı saklıdır. Hangi amaçla olursa olsun, kitapçığın tamamının veya bir kısmının Millî Eğitim Bakanlığı Ölçme, Değerlendirme ve Sınav Hizmetleri Genel Müdürlüğünün yazılı izni olmadan kopya edilmesi, fotoğraflarının çekilmesi, bilgisayar ortamına alınması, herhangi bir yolla çoğaltılması, yayımlanması veya başka bir amaçla kullanılması yasaktır. Bu yasağa uymayanlar, doğabilecek cezai sorumluluğu ve kitapçığın hazırlanmasındaki mali külfeti peşinen kabullenmiş sayılır.



1 TEMMUZ 2017 TARİHİNDE YAPILAN AÇIKÖĞRETİM LİSESİ / MESLEKİ AÇIKÖĞRETİM LİSESİ  
2016-2017 ÖĞRETİM YILI 3. DÖNEM SINAVI 1. OTURUM T KİTAPÇIĞI CEVAP ANAHTARI

(111) DİN KÜL. AHL. BİL. – 1

1. A
2. D
3. C
4. B
5. C
6. D
7. B
8. A
9. B
10. C
11. D
12. A
13. B
14. A
15. D
16. C
17. D
18. B
19. C
20. A

(115) DİN KÜL. AHL. BİL. – 5

1. A
2. D
3. B
4. C
5. B
6. C
7. D
8. B
9. C
10. D
11. C
12. B
13. D
14. D
15. A
16. C
17. B
18. A
19. C
20. A

(123) SEÇMELİ FELSEFE – 1

1. C
2. D
3. B
4. A
5. D
6. C
7. C
8. A
9. B
10. A
11. D
12. B
13. C
14. D
15. A
16. B
17. C
18. D
19. A
20. B

(136) TARİH – 6

1. A
2. B
3. A
4. D
5. C
6. C
7. D
8. C
9. A
10. C
11. B
12. D
13. B
14. B
15. C
16. A
17. D
18. B
19. A
20. D

(112) DİN KÜL. AHL. BİL. – 2

1. D
2. C
3. B
4. A
5. C
6. D
7. A
8. B
9. C
10. D
11. B
12. A
13. D
14. A
15. D
16. B
17. C
18. D
19. A
20. B

(121) FELSEFE – 1

1. A
2. D
3. C
4. A
5. B
6. C
7. D
8. B
9. A
10. D
11. C
12. A
13. B
14. D
15. B
16. C
17. C
18. D
19. A
20. B

(132) TARİH – 2

1. B
2. A
3. C
4. B
5. D
6. B
7. D
8. A
9. C
10. D
11. C
12. C
13. B
14. A
15. A
16. D
17. B
18. C
19. A
20. D

(151) COĞRAFYA – 1

1. A
2. A
3. B
4. C
5. C
6. D
7. A
8. C
9. A
10. B
11. B
12. C
13. D
14. B
15. B
16. D
17. D
18. C
19. A
20. D

1 TEMMUZ 2017 TARİHİNDE YAPILAN AÇIKÖĞRETİM LİSESİ / MESLEKİ AÇIKÖĞRETİM LİSESİ  
2016-2017 ÖĞRETİM YILI 3. DÖNEM SINAVI 1. OTURUM T KİTAPÇIĞI CEVAP ANAHTARI

(155) COĞRAFYA – 5	(181) İNGİLİZCE – 1	(181) FRANSIZCA – 1	(244) ALMANCA – 5
1. D	1. B	1. A	1. D
2. C	2. A	2. C	2. C
3. C	3. C	3. C	3. A
4. A	4. D	4. A	4. B
5. D	5. D	5. C	5. C
6. B	6. B	6. B	6. D
7. A	7. D	7. A	7. A
8. C	8. A	8. C	8. D
9. D	9. C	9. D	9. C
10. B	10. B	10. B	10. B
11. D	11. B	11. D	11. A
12. D	12. D	12. A	12. D
13. B	13. C	13. A	13. C
14. A	14. D	14. C	14. B
15. A	15. A	15. B	15. A
16. B	16. B	16. D	16. B
17. B	17. B	17. B	17. C
18. A	18. A	18. B	18. D
19. D	19. C	19. A	19. B
20. C	20. A	20. D	20. A

(157) COĞRAFYA – 7	(181) ALMANCA – 1	(244) İNGİLİZCE – 5	(244) FRANSIZCA – 5
1. C	1. C	1. C	1. A
2. A	2. B	2. A	2. C
3. D	3. D	3. B	3. A
4. C	4. A	4. D	4. D
5. A	5. B	5. B	5. D
6. B	6. D	6. D	6. B
7. D	7. C	7. A	7. A
8. A	8. A	8. C	8. C
9. C	9. B	9. D	9. B
10. A	10. C	10. A	10. A
11. C	11. D	11. A	11. D
12. D	12. B	12. C	12. C
13. A	13. A	13. B	13. D
14. D	14. C	14. D	14. C
15. B	15. D	15. C	15. B
16. A	16. A	16. B	16. A
17. B	17. B	17. D	17. B
18. C	18. C	18. A	18. C
19. B	19. A	19. A	19. A
20. B	20. D	20. C	20. D

1 TEMMUZ 2017 TARİHİNDE YAPILAN AÇIKÖĞRETİM LİSESİ / MESLEKİ AÇIKÖĞRETİM LİSESİ  
2016-2017 ÖĞRETİM YILI 3. DÖNEM SINAVI 1. OTURUM T KİTAPÇIĞI CEVAP ANAHTARI

(401) DİL ve ANLATIM – 1

1. A
2. D
3. C
4. D
5. C
6. B
7. A
8. B
9. D
10. C
11. A
12. D
13. C
14. B
15. A
16. C
17. B
18. D
19. C
20. A

(407) DİL ve ANLATIM – 7

1. A
2. C
3. C
4. D
5. B
6. A
7. D
8. B
9. C
10. A
11. C
12. A
13. D
14. B
15. C
16. C
17. A
18. B
19. A
20. B

(414) TÜRK EDEBİYATI – 4

1. D
2. A
3. C
4. B
5. D
6. A
7. C
8. B
9. A
10. D
11. C
12. B
13. D
14. A
15. B
16. D
17. C
18. D
19. C
20. B

(418) TÜRK EDEBİYATI – 8

1. C
2. A
3. D
4. B
5. C
6. C
7. D
8. A
9. A
10. D
11. D
12. B
13. D
14. A
15. C
16. D
17. A
18. B
19. D
20. A

(402) DİL ve ANLATIM – 2

1. D
2. D
3. D
4. B
5. C
6. A
7. D
8. C
9. A
10. B
11. D
12. C
13. B
14. D
15. B
16. C
17. A
18. C
19. B
20. B

(408) DİL ve ANLATIM – 8

1. A
2. A
3. D
4. B
5. C
6. C
7. B
8. D
9. C
10. C
11. A
12. B
13. D
14. C
15. C
16. D
17. A
18. B
19. C
20. C

(417) TÜRK EDEBİYATI – 7

1. A
2. B
3. A
4. C
5. D
6. D
7. A
8. B
9. D
10. D
11. B
12. D
13. C
14. A
15. B
16. A
17. C
18. C
19. A
20. D

(421) FİZİK – 1

1. D
2. C
3. D
4. A
5. B
6. A
7. D
8. C
9. D
10. B
11. A
12. A
13. D
14. B
15. B
16. C
17. C
18. A
19. B
20. C

1 TEMMUZ 2017 TARİHİNDE YAPILAN AÇIKÖĞRETİM LİSESİ / MESLEKİ AÇIKÖĞRETİM LİSESİ  
2016-2017 ÖĞRETİM YILI 3. DÖNEM SINAVI 1. OTURUM T KİTAPÇIĞI CEVAP ANAHTARI

(425) FİZİK – 5

1. C
2. A
3. D
4. C
5. D
6. C
7. A
8. A
9. B
10. B
11. D
12. D
13. A
14. C
15. B
16. B
17. D
18. A
19. A
20. C

(436) KİMYA – 6

1. B
2. C
3. D
4. C
5. A
6. A
7. B
8. D
9. B
10. A
11. D
12. C
13. B
14. C
15. D
16. A
17. D
18. B
19. C
20. A

(443) BİYOLOJİ – 3

1. C
2. B
3. D
4. C
5. A
6. A
7. B
8. D
9. B
10. C
11. A
12. D
13. A
14. C
15. C
16. A
17. D
18. D
19. C
20. B

(461) EKONOMİ. – 1

1. B
2. D
3. C
4. A
5. B
6. D
7. C
8. A
9. B
10. C
11. C
12. D
13. C
14. B
15. A
16. D
17. A
18. B
19. A
20. C

(432) KİMYA – 2

1. C
2. B
3. B
4. A
5. D
6. B
7. A
8. D
9. A
10. C
11. D
12. B
13. A
14. D
15. C
16. B
17. D
18. B
19. C
20. D

(441) BİYOLOJİ – 1

1. D
2. A
3. C
4. B
5. A
6. D
7. D
8. A
9. B
10. C
11. C
12. D
13. B
14. A
15. B
16. D
17. A
18. C
19. C
20. B

(446) BİYOLOJİ – 6

1. B
2. D
3. C
4. B
5. B
6. B
7. A
8. A
9. C
10. D
11. B
12. C
13. B
14. D
15. C
16. A
17. C
18. C
19. C
20. A

(465) TEMEL DİNİ BİL.– 1

1. C
2. D
3. D
4. B
5. A
6. B
7. C
8. B
9. A
10. C
11. D
12. A
13. B
14. C
15. D
16. B
17. A
18. B
19. D
20. C

1 TEMMUZ 2017 TARİHİNDE YAPILAN AÇIKÖĞRETİM LİSESİ / MESLEKİ AÇIKÖĞRETİM LİSESİ  
2016-2017 ÖĞRETİM YILI 3. DÖNEM SINAVI 1. OTURUM T KİTAPÇIĞI CEVAP ANAHTARI

(477) İŞLETME – 2	(484) SAĞLIK BİLGİSİ – 2	(502) İNGİLİZCE – 8	(502) FRANSIZCA – 8
1. B	1. A	1. D	1. B
2. B	2. D	2. C	2. C
3. A	3. C	3. A	3. D
4. B	4. B	4. A	4. B
5. D	5. B	5. B	5. C
6. B	6. C	6. D	6. A
7. C	7. D	7. B	7. D
8. A	8. A	8. B	8. B
9. D	9. B	9. C	9. D
10. D	10. C	10. A	10. C
11. D	11. D	11. D	11. C
12. B	12. A	12. A	12. A
13. C	13. C	13. C	13. B
14. A	14. D	14. B	14. A
15. D	15. B	15. C	15. C
16. C	16. A	16. D	16. D
17. B	17. C	17. A	17. D
18. C	18. B	18. A	18. A
19. C	19. A	19. C	19. C
20. A	20. D	20. D	20. B

(479) MANTIK – 2	(491) TRAF. VE İLK YARD. – 1	(502) ALMANCA – 8	(511) FIKIH – 1
1. C	1. D	1. D	1. B
2. B	2. B	2. A	2. C
3. D	3. A	3. B	3. A
4. A	4. A	4. C	4. C
5. B	5. C	5. D	5. B
6. C	6. A	6. B	6. D
7. A	7. B	7. C	7. A
8. D	8. D	8. D	8. A
9. D	9. C	9. A	9. D
10. C	10. B	10. C	10. B
11. B	11. D	11. A	11. A
12. A	12. C	12. B	12. C
13. B	13. D	13. D	13. A
14. D	14. B	14. D	14. C
15. C	15. A	15. C	15. B
16. A	16. C	16. B	16. D
17. C	17. B	17. A	17. C
18. D	18. D	18. C	18. D
19. B	19. A	19. A	19. B
20. A	20. C	20. B	20. C

1 TEMMUZ 2017 TARİHİNDE YAPILAN AÇIKÖĞRETİM LİSESİ / MESLEKİ AÇIKÖĞRETİM LİSESİ  
2016-2017 ÖĞRETİM YILI 3. DÖNEM SINAVI 1. OTURUM T KİTAPÇIĞI CEVAP ANAHTARI

(532) HZ. MUHAMMED'İN HAY. – 2

1. A
2. D
3. C
4. B
5. A
6. D
7. B
8. D
9. C
10. C
11. D
12. B
13. A
14. B
15. D
16. C
17. C
18. A
19. C
20. B

(611) KARŞ. DİN. TARİHİ – 1

1. D
2. B
3. A
4. C
5. B
6. C
7. B
8. D
9. B
10. A
11. B
12. C
13. A
14. C
15. D
16. B
17. D
18. D
19. A
20. C

(618) SEÇ. DİL ve ANLA. – 8

1. C
2. D
3. D
4. B
5. A
6. B
7. A
8. C
9. D
10. A
11. C
12. B
13. D
14. C
15. B
16. D
17. B
18. A
19. A
20. C

(628) SEÇ. TÜRK ED. – 8

1. B
2. A
3. C
4. D
5. B
6. A
7. D
8. D
9. B
10. A
11. C
12. D
13. A
14. C
15. D
16. B
17. A
18. A
19. D
20. B

(609) MATEMATİK – 6

1. B
2. C
3. D
4. B
5. A
6. D
7. B
8. A
9. D
10. A
11. C
12. B
13. D
14. B
15. C
16. C
17. A
18. B
19. C
20. D

(617) SEÇ. DİL ve ANLA. – 7

1. B
2. C
3. D
4. B
5. A
6. A
7. B
8. C
9. D
10. C
11. A
12. C
13. C
14. C
15. A
16. B
17. B
18. C
19. D
20. B

(627) SEÇ. TÜRK ED. – 7

1. A
2. D
3. B
4. A
5. B
6. D
7. C
8. B
9. D
10. A
11. C
12. C
13. D
14. D
15. C
16. A
17. B
18. C
19. B
20. A

(711) İSLAM TARİHİ – 1

1. D
2. A
3. B
4. D
5. A
6. C
7. B
8. C
9. D
10. A
11. B
12. C
13. C
14. A
15. A
16. D
17. C
18. C
19. B
20. B

1 TEMMUZ 2017 TARİHİNDE YAPILAN AÇIKÖĞRETİM LİSESİ / MESLEKİ AÇIKÖĞRETİM LİSESİ  
2016-2017 ÖĞRETİM YILI 3. DÖNEM SINAVI 1. OTURUM T KİTAPÇIĞI CEVAP ANAHTARI

(813) AKAD VE KELAM – 1

1. B
2. D
3. D
4. A
5. B
6. D
7. C
8. A
9. C
10. B
11. A
12. D
13. B
14. C
15. A
16. D
17. A
18. C
19. B
20. D

(974) GİRİŞİMCİLİK – 1

1. A
2. D
3. B
4. D
5. A
6. D
7. D
8. A
9. B
10. C
11. A
12. B
13. D
14. C
15. A
16. A
17. B
18. D
19. A
20. C

(931) SİYER – 1

1. D
2. A
3. B
4. B
5. A
6. D
7. C
8. B
9. D
10. C
11. B
12. C
13. A
14. C
15. A
16. B
17. C
18. D
19. A
20. B

(999) MATEMATİK – 2

1. A
2. D
3. C
4. B
5. D
6. C
7. A
8. B
9. D
10. A
11. C
12. A
13. B
14. C
15. D
16. A
17. D
18. A
19. B
20. C