

T.C.
MİLLÎ EĞİTİM BAKANLIĞI
ÖLÇME, DEĞERLENDİRME VE
SINAV HİZMETLERİ GENEL MÜDÜRLÜĞÜ



AÇIK ÖĞRETİM LİSESİ / MESLEKİ AÇIK ÖĞRETİM LİSESİ
2016 - 2017 ÖĞRETİM YILI
EK SINAV

1.
OTURUM

7 EKİM 2017 Saat: 09.30

DERS KODU VE ADI	SAYFA	DERS KODU VE ADI	SAYFA	DERS KODU VE ADI	SAYFA
(111) DİN KÜL. AHL. BİL. – 1	2	(407) DİL VE ANLATIM – 7	21	(502) İNGİLİZCE – 8	44
(112) DİN KÜL. AHL. BİL. – 2	3	(408) DİL VE ANLATIM – 8	22	(502) ALMANCA – 8	45
(115) DİN KÜL. AHL. BİL. – 5	4	(414) TÜRK EDEBİYATI – 4	24	(502) FRANSIZCA – 8	46
(121) FELSEFE – 1	5	(417) TÜRK EDEBİYATI – 7	25	(511) FIKIH – 1	47
(123) SEÇMELİ FELSEFE – 1	6	(418) TÜRK EDEBİYATI – 8	26	(532) HZ. MUHAMMED'İN HAY. – 2	48
(132) TARİH – 2	7	(421) FİZİK – 1	28	(609) MATEMATİK – 6	49
(136) TARİH – 6	9	(425) FİZİK – 5	30	(611) KARŞ. DİN. TAR. – 1	50
(151) COĞRAFYA – 1	10	(432) KİMYA – 2	31	(617) SEÇ. DİL VE ANLA. – 7	52
(155) COĞRAFYA – 5	11	(436) KİMYA – 6	32	(618) SEÇ. DİL VE ANLA. – 8	53
(157) COĞRAFYA – 7	12	(441) BİYOLOJİ – 1	34	(627) SEÇ. TÜRK ED. – 7	54
(181) İNGİLİZCE – 1	13	(443) BİYOLOJİ – 3	35	(628) SEÇ. TÜRK ED. – 8	56
(181) ALMANCA – 1	14	(446) BİYOLOJİ – 6	36	(711) İSLAM TARİHİ – 1	57
(181) FRANSIZCA – 1	14	(461) EKONOMİ – 1	37	(813) AKAİD VE KELAM – 1	58
(244) İNGİLİZCE – 5	15	(465) TEMEL DİNİ BİL. – 1	38	(931) SİYER – 1	59
(244) ALMANCA – 5	16	(477) İŞLETME – 2	39	(974) GİRİŞİMCİLİK – 1	60
(244) FRANSIZCA – 5	17	(479) MANTIK – 2	40	(999) MATEMATİK – 2	61
(401) DİL VE ANLATIM – 1	18	(484) SAĞLIK BİLGİSİ – 2	41		
(402) DİL VE ANLATIM – 2	20	(491) TRAF. VE İLK YARD. – 1	43		

ADAYLARIN DİKKATİNE!

- Her ders için 20 soru bulunmaktadır. Bu oturumda **180** dakikalık cevaplama süreniz vardır. Sınav başladıktan sonra ilk **30** dakika tamamlanmadan dışarı çıkmayınız.
- Sınav sırasında çanta, cep telefonu, saat, kablosuz iletişim sağlayan cihazlar ve kulaklık, kolye, küpe, bilezik, yüzük, broş ve benzeri eşyalar ile her türlü elektronik ve/veya mekanik cihazları yanınızda bulundurmuyunuz. Bu araçları yanınızda bulundurmanız ve kopya çekmeye teşebbüs etmeniz hâlinde sınavınız geçersiz sayılacaktır.
- Başvuru şartlarını taşımadığınız hâlde sınava girmeniz, kopya çekmeniz, başka adayın sınav evrakını kullanmanız, geçerli kimlik belgenizi ve sınav giriş belgenizi ibraz edemediğiniz durumlarda sınavınız geçersiz sayılacaktır.
- Sınavın değerlendirilmesi aşamasında, bilgisayar ortamında yapılan kopya analizinde sistemin ikili ve/veya toplu kopya tespiti hâlinde sınavınız geçersiz sayılacaktır.
- Adaylar, sınav kurallarına ve salon görevlilerinin tüm uyarılarına uymak zorundadır. Kurallara ve uyarılara uymayan adayların sınavları geçersiz sayılacaktır.**
- Sınav başladıktan sonra adayların salon görevlileri ve birbirleri ile konuşmaları; kalem, silgi vb. şeyleri istemeleri yasaktır.
- Adaylar sınav süresince, sınav giriş belgesi ile geçerli kimlik belgelerinden birinin aslını (fotoğraflı nüfus cüzdanı, pasaport veya sürücü belgesi) masalarının üzerinde bulundurmamak zorundadır.
- Sınav evraklarını teslim etmeyen, soru kitapçıklarının sayfalarından bir kısmını eksik teslim edenlerin sınavları geçersiz sayılacaktır.**
- Sınav başlamadan önce kitapçığın arkasındaki açıklamaları okuyunuz.

BAŞLAYINIZ DENMEDEN SORU KİTAPÇIKLARINI AÇMAYINIZ.

1. OTURUM

(111) DİN KÜL. AHL. BİL. – 1

1. Aşağıdakilerden hangisi evrendeki diğer canlılara göre insanın farklılığını en iyi ifade eder?

- A) Bedensel bazı becerilerinin olması
- B) Beslenerek hayatını devam ettirmesi
- C) Bir erkek ve diğiden meydana gelmesi
- D) Akıl, irade ve konuşma yeteneğine sahip olması

2. İnanan ve sorumluluklarının bilincinde olan bir insandan aşağıdaki davranışlardan hangisini yapması beklenmez?

- A) Doğayı ve canlıları korur.
- B) Haksızlık karşısında sessiz kalır.
- C) Kimseyi incitmeye dikkat eder.
- D) İbadetlerini tam olarak yerine getirmeye çalışır.

3. Doğru inanca sahip, manevi duyguları yüksek toplumlarda aşağıdakilerden hangisinin olması beklenmez?

- A) Suç işleme oranının düşmesi
- B) Huzur ve güven ortamının oluşması
- C) İlerleme ve yükselmenin yavaşlaması
- D) Millî ve manevî değerler etrafında birleşmesi

4. “Şayet yerde ve gökte Allah’tan başka ilahlar olsaydı yerin ve göğün düzeni bozulurdu...”
(Enbiyâ suresi, 22. ayet)

Bu ayette aşağıdaki inanç biçimlerinden hangisi vurgulanmaktadır?

- A) Monoteizm
- B) Politeizm
- C) Satanizm
- D) Ateizm

5. Aşağıdakilerden hangisi ibadetlerin yapılış amaçlarından biri olamaz?

- A) Yaratıcıya şükretmek
- B) İnsanlara hoş görünmek
- C) Kulluk görevini yerine getirmek
- D) Allah’ın rızasını kazanmak

6. Aşağıdakilerden hangisi ibadetlerin insana kazandırdıkları arasında sayılamaz?

- A) Dünya ile olan bağı koparır.
- B) İmanı daha güçlü hale getirir.
- C) Allah’a olan sevgi ve saygıyı artırır.
- D) Kötü duygu ve düşüncelerden uzaklaştırır.

7. Aşağıdakilerden hangisi Veda Hutbesi’nde yer alan konulardan biri değildir?

- A) Tevhit İnancı
- B) Temel Haklar
- C) Melek İnancı
- D) Emanetler

8. Usulüne uygun olarak abdest almakta olan bir kişi kollarını yıkadıktan sonra aşağıdakilerden hangisini yapar?

- A) Yüzünü yıkar.
- B) Ağzını temizler.
- C) Ayaklarını yıkar.
- D) Başını mesh eder.

9. Aşağıdakilerden hangisi Kur’an-ı Kerim’in ana konularından biridir?

- A) İnsanın yaratılışı
- B) İnanç esasları
- C) Evrenin işleyişi
- D) Peygamber isimleri

10. Teym kabilesi ileri gelenlerinden Abdullah b. Cüd’ân’ın evinde toplanan kurucu üyeler; zulme uğrayanların haklarını zalimlerden alıncaya kadar mücadele edeceklerine, Mekke halından ve Mekke’ye dışarıdan gelen kimselerden haksızlığa uğrayanların yanında yer alacaklarına ve zalimden hakkını alıncaya kadar mazlumunu destekleyeceklerine dair karar aldılar.

Hz. Muhammed (sav.) de katıldığı bu cemiyet aşağıdakilerden hangisiyle isimlendirilmiştir?

- A) Akabe Biatı
- B) Hilfû'l-Fudûl
- C) Rıdvân Biatı
- D) Dârun-Nedve

11. Aşağıda verilen bilgilerden hangisi yanlıştır?

- A) İlk hicret 622 yılında Habeşistan’a yapılmıştır.
- B) İlk Cuma namazı Ranuna Vadisi’nde kılınmıştır.
- C) İlk vahiy 610 yılı Ramazan ayında gelmiştir.
- D) I. Akabe Biatı 620 yılında yapılmıştır.

12.

Muhammed Mustafa (sav.)	
1. Doğum yeri: Mekke	4. Anne adı: ----
2. Doğum tarihi: ----	5. Dede adı: ----
3. Baba adı: ----	6. Amca adı: Ebu Talip

Tabloda boş bırakılan yerlere yazılması gerekenler sırasıyla hangi seçenekte doğru olarak verilmiştir?

- A) 571, Abdullah, Aişe, Hamza
- B) 622, Hamza, Amine, Ebu Bekir
- C) 571, Abdullah, Amine, Abdulmuttalib
- D) 632, Abdulmuttalib, Halime, Abdullah

13. Aşağıdakilerden hangisi Hz. Muhammed’in (sav.) toplumsal barışa yönelik etkinliklerinden biri değildir?

- A) Muhacirlerle ensar arasında kardeşlik tesis etmesi
- B) Cahiliye Döneminden kalan kan davalarını kaldırması
- C) Medine’deki farklı inanç gruplarıyla Barış Antlaşması imzalaması
- D) Mescid-i Nebi’nin bitişiğine “Suffe” denilen bölümler yaptırması

14. Aşağıdakilerden hangisi hem maddî hem manevî temizliktir?

- A) Gusûl abdesti
- B) Elbise temizliği
- C) Çevre temizliği
- D) Beden temizliği

15. “Muhammed yalnızca bir elçidir. Ondan önce de elçiler gelip geçti. Şimdi o ölür veya öldürülürse gerisin geri dönecek misiniz? Kim geri dönerse bilsin ki Allah’a asla bir zarar vermiş olmayacaktır. Allah şükredenleri ödüllendirecektir.”
(Âl-i İmran suresi, 144. ayet)

Aşağıdakilerden hangisi bu ayetten çıkarılabilecek sonuçlardan biridir?

- A) Allah’a isyanda kula itaat yoktur.
- B) Bütün canlılar ölümlü, Allah ise bakîdir.
- C) Hz. Muhammed (sav.) her insan gibi ölümlüdür.
- D) Kur’an-ı Kerim’de 25 Peygamberin adı geçmektedir.

1. OTURUM

16. I. **Ensar:** Dinleri için Mekke'den Medine'ye hicret eden Müslümanlar.
 II. **Muhacir:** Hicret edenlere her türlü yardımı yapan Medineli Müslümanlar.
 III. (**sav.:**) "Allah'ın rahmeti ve bereketi onun (Peygamberimizin) üzerine olsun" anlamında bir dua.
 IV. **Suffe:** İslam'ı öğrenmek için Medine dışından gelen yoksul, kimsesiz ve yetimlerin kaldığı odalar.

Numaralanmış kavramlardan hangilerinin açıklaması doğru olarak verilmiştir?

- A) I ve II. B) I ve III.
 C) II ve IV. D) III ve IV.

17. **Kur'an-ı Kerim hakkında aşağıdaki bilgilerden hangisi yanlıştır?**

- A) Bir defada indirilmiştir.
 B) Mesajları evrenseldir.
 C) 114 sure, 30 cüzden oluşur.
 D) Son gelen ilahi kitaptır.

18. **İslam'ı doğru bir şekilde öğrenmek isteyen bir kimsenin başvurması gereken ilk kaynaklar aşağıdakilerden hangisidir?**

- A) Cemaatler ve tarikatlar
 B) Medyumlar ve falcılar
 C) Alimler ve mürşitler
 D) Kur'an ve Sünnet

19. **Kur'an-ı Kerim'in değişmeden günümüze kadar gelmesinde aşağıdakilerden hangisi en etkili olmuştur?**

- A) Mekke ve Medine'de nazil olması
 B) İnen ayetlerin yazıya geçirilmesi
 C) Ayetlerin 23 yılda inmesi
 D) Dilinin Arapça olması

20. **Aşağıdaki kavramlar bir kurala göre eşleştirilmiştir.**

Buna göre hangi eşleştirme yanlıştır?

- A) Ayet - Hadis B) Mukabele - Cüz
 C) Sure - Tecvit D) Meal - Tefsir

(112) DİN KÜL. AHL. BİL. – 2

1. **Aşağıdakilerden hangisi ilk Müslüman Türk Devletleri'nden biri değildir?**

- A) Karahanlılar
 B) Gazneliler
 C) Hazarlar
 D) İtil Volga Bulgar Devleti

2. **Aşağıdaki eser ve yazar eşleştirmelerinden hangisi doğrudur?**

- A) Hak Dini Kur'an Dili-Muhammed Hamdi Yazır
 B) El Kanun fit-Tıp – Fahreddin Razi
 C) Mefâti'hü'l Gayb- İbn-i Sina
 D) Kitabü'ş Şifa – Harezmi

3. **Aşağıdaki ayetlerden hangisinde inanç özgürlüğüne vurgu yapılmıştır?**

- A) "Ve de ki; Hak, Rabb'inizdendir. Öyle ise dileyen iman etsin, dileyen inkâr etsin..."
 (Kehf suresi, 29. ayet)
 B) "Gerçekten insan için kendi çalışmasının karşılığından başka bir şey yoktur."
 (Necm suresi, 39. ayet)
 C) "Dinde zorlama yoktur. Artık doğruluk ile eğrilik birbirinden ayrılmıştır..."
 (Bakara suresi, 256. ayet)
 D) "Şüphesiz biz ona (doğru) yolu gösterdik. İster şükredici olsun ister nankör."
 (İnsan suresi, 3. ayet)

4. **Aşağıdaki ayetlerden hangisi dinin istismar edilmesi ile ilişkilendirilebilir?**

- A) "Size ayetlerim okunurdu da siz onları yalanladınız değil mi?"
 (Mü'minün suresi, 105. ayet)
 B) "İşte bunlar Allah'ın ayetleridir. Biz onları sana doğru olarak anlatıyoruz..."
 (Bakara suresi, 252. ayet)
 C) "... Allah'ın ayetlerini az bir karşılık ile satmayın..."
 (Bakara suresi, 41. ayet)
 D) "Kendilerine, O çok esirgeyici Allah'tan hiçbir yeni öğüt gelmez ki, ondan yüz çevirmesinler."
 (Şuarâ suresi, 5. ayet)

	Eser	Yazar
I	Divan-ı Hikmet	Ahmet Yesevî
II	Makalât	Hacı Beştaş-ı Veli
III	Kanun fit-Tıp	İbn Sina
IV	Mesnevi	Ahî Evran

Tablodaki eşleştirmelerden hangisi yanlıştır?

- A) I B) II C) III D) IV

6. **Aşağıdakilerden hangisinin din ve vicdan özgürlüğünün gelişmesinde katkısı yoktur?**

- A) İlim B) Hoşgörü
 C) Taassup D) Hürriyet

7. **Türklerin Müslüman Araplarla ilk teması hangi halife zamanında gerçekleşmiştir?**

- A) Hz. Ali B) Hz. Osman
 C) Hz. Ebubekir D) Hz. Ömer

8. "Ey iman edenler! Yapmayacağınız şeyleri niçin söylüyorsunuz. Yapmayacağınız şeyleri söylemeniz, Allah katında büyük bir nefretle karşılanır."
 (Saff suresi, 2-3. ayetler)

Bu ayette aşağıdaki davranışların hangisi kınanmaktadır?

- A) Dedikodu yapılması
 B) Toplum içinde fitne çıkarılması
 C) Söz ile davranışların uyuşmaması
 D) Verilen görevin yerine getirilmemesi

9. • Moğol istilasından dolayı ailesi ile Anadolu'ya gelmiştir.
 • İlk öğrenimini babası Sultan Veled'den almıştır.
 • Şems-i Tebrizi ile karşılaşması hayatının dönüm noktası olmuştur.

Verilen bilgiler aşağıdaki mutasavvıflardan hangisine aittir?

- A) Mevlana Celaleddin Rumi
 B) Hacı Bayram Veli
 C) Hacı Bektaş Veli
 D) Ahmet Yesevi

1. OTURUM

10. İmam Şafî hakkında aşağıda verilen bilgilerden hangisi yanlıştır?

- A) İmam Malik'ten fıkıh dersleri almıştır.
- B) Ömrünün son dönemlerini Mısır'da geçirmiştir.
- C) Kitabü'l-Ümm ve er-Risâle en önemli eserlerindedir.
- D) Meşhur talebeli İmam Yusuf ve İmam Muhammed'dir.

11. "Bir toplumda genel kabul gören veya benimsenen her türlü duygu, düşünce ve davranışa - - - - denir."

Cümlede boş bırakılan yere aşağıdaki kavramlardan hangisi getirilmelidir?

- A) Hukuk
- B) Değer
- C) Alışkanlık
- D) Sanat

12. Aşağıdakilerden hangisi değerlerin oluşumunda etkili değildir?

- A) Ahlak
- B) Din
- C) Kültür
- D) Soy

13.

I	Ahlakî Değerler	A	Helal, haram
II	Dini Değerler	B	İyi, kötü
III	Sanatsal Değerler	C	Güzel, çirkin

Tabloda verilenler eşleştirildiğinde aşağıdakilerden hangisi doğru olur?

- A) I - A
- B) I - B
- C) II - C
- D) III - B

14. İslam dini; dil, din, ırk, cinsiyet, milliyet, sosyal statü ve renk gözetmeksizin insana, insan olduğu için bir takım haklar tanımış, hem teoride hem de pratikte bunu ortaya koymuştur.

Aşağıdakilerden hangisi bu duruma örnek gösterilemez?

- A) Veda Hutbesi
- B) Medine Sözleşmesi
- C) Kan davası ve köleliğin yasaklanması
- D) İnsan Hakları Evrensel Beyannamesi

15. Mehmet Âkif Ersoy bir sözünde "Allah, bir daha bu millete İstiklâl Marşı yazdırmasın!" demiştir.

Mehmet Âkif'in bu sözü söyleme-sindeki amaç aşağıdakilerden hangisidir?

- A) Vatanın hürriyet ve bağımsızlığının kaybedilmesi endişesi
- B) İstiklâl Marşı'nı yeniden yazacak kadar ömrünün olmaması
- C) Herkesin milli duygularını açıkça ifade edecek güce sahip olamayacağı
- D) TBMM tarafından İstiklâl Marşı'nı yazacak şaire ödül verilmesine karşı olması

16. Aşağıdakilerden hangisi İslam dininin korunmasını istediği temel ilkelere değildir?

- A) Akıl
- B) Din
- C) Örf
- D) Can

17. Aşağıdakilerden hangisi toplumu birleştiren ortak değerlerden biri değildir?

- A) Vatan
- B) Spor
- C) Hürriyet
- D) Bağımsızlık

18. Din, her zaman bireyi esas almış ve insanın davranışlarından sorumlu olacağını bildirmiştir.

Aşağıda verilen ayetlerden hangisi bu duruma örnek gösterilemez?

- A) "Hiç kimse başkasının günah yükünü yüklenmez..." (Zümer suresi, 7. ayet)
- B) "Kim zerre miktarı hayır yapmışsa onu görür. Kim de zerre miktarı şer işlemişse onu görür." (Zilzâl suresi, 7 ve 8. ayetler)
- C) "Ve de ki: Gerçek, rabbinizden gelendir. Artık dileyen iman etsin, dileyen inkâr etsin..." (Kehf suresi, 29. ayet)
- D) "Mü'minler o kimselerdir ki, Allah'ın adı anıldığında yürekleri titrer, kendilerine Allah'ın âyetleri okunduğunda bu onların imanını artırır." (Enfâl suresi, 2. ayet)

19. Aşağıda laiklik hakkında verilen bilgilerden hangisi doğrudur?

- A) Devletin tüm inançlara eşit mesafede olmasıdır.
- B) Belli bir inancı empoze etmek için ortaya çıkmıştır.
- C) 1789 Fransız İhtilali ile laiklik önemini yitirmiştir.
- D) Rönesans ve Reform hareketleri laikliği olumsuz etkilemiştir.

20. Aşağıdakilerden hangisi laikliğin temel amaçlarından biri değildir?

- A) Din ve vicdan hürriyetini güvence altına almak
- B) Dinde ruhbanlık anlayışını yaygınlaştırmak
- C) Dinin istismarını ortadan kaldırmak
- D) Bilimsel çalışmaların önünü açmak

(115) DİN KÜL. AHL. BİL. – 5

1. İnsanın yaptıklarından sorumlu tutulmasının nedeni aşağıdakilerden hangisidir?

- A) Güçlü olması
- B) Çalışkan olması
- C) Akıllı olması
- D) Yetenekli olması

2. Aşağıdakilerden hangisi ibadetlerde samimiyet anlayışına uygun düşmez?

- A) Maddi çıkar beklemek
- B) Allah'ın rızasını gözetmek
- C) İçtenlikle davranmak
- D) Gösterişten uzak olmak

3. Aşağıdakilerden hangisi ibadetlerin bireysel faydalarından biri değildir?

- A) İmanı kuvvetlendirir.
- B) Güven duygusunu geliştirir.
- C) Sorumluluk bilincini geliştirir.
- D) Sosyal yardımlaşmayı teşvik eder.

4. Toplumsal yardımlaşma ve dayanışmaya katkısı diğerlerine göre daha az olan ibadet aşağıdakilerden hangisidir?

- A) Kurban
- B) Hac
- C) Zekat
- D) Sadaka

5. Aşağıdakilerden hangisi peygamberlerin ortak sıfatlarından biri değildir?

- A) Doğru olmak
- B) Okur-yazar olmak
- C) Güvenilir olmak
- D) Günahattan uzak olmak

6. Hz. Muhammed (sav.)'in doğum günü olarak kutlanan kandil aşağıdakilerden hangisidir?

- A) Mevlit
- B) Regaip
- C) Kadir
- D) Miraç

1. OTURUM

7. Hz. Muhammed (sav.), kendisini ziyarete gelen Necranlı Hristiyanların Mescid-i Nebi'nin içinde ibadet etmelerine izin vermiştir.

Peygamberimizin bu tutumu onun hangi özelliği ile ilişkilidir?

- A) Merhameti B) Sabrı
C) Hoşgörüsü D) Adaleti

8. Arayı arayı bulsam izini
İzinin tozuna sürsem yüzümü,
Hak nasip eylese görsem yüzünü
Ya Muhammed canım arzular seni.

Bu dörtlükte Hz. Muhammed (sav.) için öne çıkan duygu aşağıdakilerden hangisidir?

- A) Saygı B) Özlem
C) Övgü D) Bağlılık

9. **Aşağıdakilerden hangisi İslam düşüncesinde ortaya çıkan yorum farklılıklarının sonuçlarından biri değildir?**

- A) İslam düşüncesi ve kültürüne zenginlik katmıştır.
B) Farklı mezheplerin ortaya çıkmasına sebep olmuştur.
C) Dini anlamayı ve yaşamayı zorlaştırmıştır.
D) İslam düşüncesinin canlı ve dinamik olmasını sağlamıştır.

10. **Farz ibadetlerin yerine getirilmesinde aşağıdakilerden hangisi aranmaz?**

- A) Sabırlı olmak
B) Gizli yapmak
C) Samimi olmak
D) Kolayı tercih etmek

11. **Aşağıdaki olaylardan hangisi itikadî mezheplerin doğuşuna sebep olmamıştır?**

- A) Halifelik
B) Cemel Vakası
C) Ayetlerin yorumu
D) İbadetlerin yapılışı

12. **Aşağıdakilerden hangisi İslam düşüncesinde yorum farklılıklarının sonuçlarındandır?**

- A) Mezhepler
B) Ortam ve Kültür
C) Dini metinler
D) İnsanın yapısı

13. **Açık, kesin, manası herkes tarafından aynı şekilde anlaşılan ayetlere ne ad verilir?**

- A) Nasih
B) Muhkem
C) Müteşabih
D) Huruf'u mukatta

14. • İlk halifelik Hz.Ali'nin hakkıdır.
• Hz.Ali, Hz. Muhammed (sav.)'den sonra insanların en üstünüdür.

Temel görüşlerinden bazıları verilen siyasi-itikadi mezhep hangisidir?

- A) Eşarilik B) Mu'tezile
C) Şia D) Haricilik

15. • Vasıl bin Ata'nın görüşleri etrafında oluşmuş bir mezheptir.
• En çok taraftarı Abbasiler döneminde olmuştur.

Hakkında bilgi verilen itikadi mezhep aşağıdakilerden hangisidir?

- A) Mu'tezile B) Eşarilik
C) Şia D) Maturidilik

16. **Tarikat kelimesi daha çok aşağıdakilerden hangisinin yerine kullanılmaktadır?**

- A) İtikadi mezhepler
B) Fikhi mezhepler
C) Tasavvufi oluşumlar
D) Siyasi oluşumlar

17. • Osmanlı Devleti'nin resmi mezhebi idi.
• Dini hükümler tahsis edilirken örf ve adetlerin bağlayıcılığı vardır.

Hakkında bilgi verilen fıkhi mezhep aşağıdakilerden hangisidir?

- A) Hanbelilik B) Malikilik
C) Şafilik D) Hanefilik

18. **"Vesiletü-n Necat" isimli eser aşağıdakilerin hangisi tarafından yazılmıştır?**

- A) Süleyman Çelebi
B) Evliya Çelebi
C) Nedim
D) Fuzuli

19. **Aşağıdaki kavramlardan hangisi İslam inanç esaslarının tümünü ifade etmek için kullanılır?**

- A) Hitabet B) Fıkıh
C) Akait D) Tefsir

20. **Aşağıdakilerden hangisi ehl-i beyten biridir?**

- A) Hz.Ebu Bekir B) Hz. Ömer
C) Hz. Osman D) Hz.Ali

(121) FELSEFE – 1

1. **Aşağıdakilerden hangisi insan bilimleri arasında yer alır?**

- A) Fizik B) Mantık
C) Psikoloji D) Jeoloji

2. **Aşağıdakilerden hangisi felsefe ve dinin ortak yönüdür?**

- A) İlahi kaynaklı olma
B) Akıl yürütmeye dayanma
C) Şüphe ve eleştiriye açık olma
D) Evreni, insanı anlama ve açıklama çabasında olma

3. • Amacı, ürettiği aletlerle doğayı insan lehine çevirmektir.
• Akla ve bilimsel düşünceye dayanır.
• Nesnel bir bilgidir.

Bu özellikler aşağıdaki bilgi türlerinden hangisine aittir?

- A) Teknik bilgiye
B) Sanat bilgisine
C) Felsefi bilgiye
D) Gündelik bilgiye

4. **Aşağıdakilerden hangisi metafiziğin temel problemleri arasında yer almaz?**

- A) Ontolojik problemler
B) Kozmolojik problemler
C) Doğru bilginin imkânı problemi
D) Tanrı ve ruhla ilgili problemler

5. Felsefe insanın bilinçlenmesinde, evreni dünyayı ve kendini anlamasında, merak ve şüphe dürtüsünün doyurulmasında önemli bir işleve sahiptir. Her şeyden önce insanın var oluşunun anlamını sorgulamasını sağlar.

Bu açıklamada aşağıdakilerin hangisinden söz edilmiştir?

- A) Felsefenin diğer alanlarla ilişkisinden
B) Felsefenin işlevinden
C) Felsefenin disiplinlerinden
D) Felsefenin anlamından

6. **Aşağıdakilerden hangisi genel geçer doğru bilginin insan için olanaksız olduğunu savunan görüştür?**

- A) Pozitivizm B) Septisizm
C) Pragmatizm D) Rasyonalizm

1. OTURUM

7. • Bilginin nesnesine tam olarak uymasıdır.
• Ortaya konulan bilginin gerekçelenirliğidir.
• Belirli bir zamanda ve mekânda var olan her şeydir.

Yukarıdaki tanımlar sırasıyla hangi kavramlara aittir?

- A) Temellendirme - doğruluk - gerçeklik
B) Gerçeklik - doğruluk - temellendirme
C) Temellendirme - gerçeklik - doğruluk
D) Doğruluk - temellendirme - gerçeklik

8. Sokrates maiotik yöntemi kullanarak, hiçbir şey bilmediğini söyleyen kişilere, aslında birçok şey bildiğini gösterirdi. Ona göre, öğretmen öğrencisine yeni bir şey öğretmez; ancak onun aklında var olan bilgileri ortaya çıkarır.

Sokrates'in bu görüşleri aşağıdakilerden hangisine ters düşer?

- A) Bilginin kaynağı akıldır.
B) Bilgiye ulaşmak mümkündür.
C) Bütün bilgiler aklımızda doğuştan vardır.
D) İnsan bilgiyi öğrenme yoluyla sonradan kazanır.

9. **Aşağıdakilerden hangisi empirizmin savunduğu görüşler arasında yer almaz?**

- A) Faydalı olan bilgi doğru bilgidir.
B) Bilginin kaynağında tecrübe ve deney vardır.
C) İnsan aklında doğuştan gelen hiç bir bilgi yoktur.
D) İnsan zihni dünyaya geldiğinde boş bir levha gibidir.

10. Felsefe varlık, değer ve Tanrı üstüne doğruluğu test edilemeyen görüşler öne sürmek yerine, dildeki kavramları çözümleridir.

Bu görüşü savunan felsefe akımı aşağıdakilerden hangisidir?

- A) Fenomenoloji B) Kritisizm
C) Pragmatizm D) Analitik felsefe

11. **Aşağıdakilerden hangisi klasik bilim anlayışının dayandığı temel görüşlere ters düşer?**

- A) Bilimler birbirine indirgenemez.
B) Bilim geçmişten günümüze artarak ilerlemiştir.
C) Bilim nesnel gerçekliği konu edinir.
D) Bilim tümüyle akılcı bir ekinliktir.

12. Bilimde önermeler birbirleriyle çelişmez. Tüm bilimsel yargılar mantık kurallarına uygundur.

Yukarıda bilimsel bilginin hangi özelliğinden söz edilmiştir?

- A) Eleştirelilik
B) Mantıksallık
C) Olgusalılık
D) Evrensellik

13. **Aşağıdakilerin hangisinde bilimi etkinlik olarak ele alan yaklaşımın temsilcileri birlikte verilmiştir?**

- A) H.Reichenbach - R. Carnap
B) R. Carnap - T. Hobbes
C) T. Khun - S. Toulmin
D) T. Hobbes - I.Kant

14. I. Hipotez
II. Metafizik
III. Paradigma

Verilenlerden hangileri bilim felsefesinin ele aldığı kavramlar arasında yer alır?

- A) I ve II. B) I ve III.
C) II ve III. D) I, II ve III.

15. "Bilgilerimiz doğuştan akıl yoluyla getirilir."

Bu düşünceyi savunan akım aşağıdakilerden hangisidir?

- A) Entüisyonizm B) Kritisizm
C) Realizm D) Rasyonalizm

16. **Aşağıdaki filozoflardan hangisi varlığını düşünceden oluştuğunu savunmuştur?**

- A) Platon B) La Mettrie
C) K.Marks D) Hobbes

17. I. Varlığı parçalara ayırarak inceler.
II. Varlığın var olup olmadığını sorgular.
III. Varlığı akıl yoluyla açıklamaya çalışır.

Felsefenin varlığa yaklaşımı ile ilgili yukarıda verilen bilgilerden hangileri doğrudur?

- A) I ve II. B) I ve III.
C) II ve III. D) I, II ve III.

18. Descartes'a göre, madde ve ruh olmak üzere iki töz vardır. Madde yer kaplar ama düşünemez, ruh ise düşünür ama yer kaplayamaz. Varlık bu iki tözün ürünüdür.

Aşağıdakilerden hangisi Descartes'in bu görüşünden çıkarılabilecek bir sonuç değildir?

- A) Varlık gerçekten vardır.
B) Varlık ruh ve maddeden oluşmuştur.
C) Varlık sürekli değişme hâlinindedir.
D) Madde ve ruhun işlevleri birbirinden farklıdır.

19. I. Olgusal olma
II. Akla dayanma
III. Kesin sonuçlara ulaşma

Verilenlerden hangileri felsefe ile bilimin ortak yönleri arasında yer alır?

- A) Yalnız II B) Yalnız III
C) II ve III. D) I, II ve III.

20. "Hiçbir şey var değildir, var olsa bile bilinemez; bilirse bile başkalarına aktarılamaz."

Gorgias'ın bu görüşü varlık felsefesinin öncelikle hangi sorusuna cevap niteliğindedir?

- A) Varlık nedir?
B) Varlık var mıdır?
C) Varlık nasıl oluşmuştur?
D) Varlığın niteliği nedir?

(123) SEÇMELİ FELSEFE – 1

1. **Felsefi bilgide özne ile nesne arasındaki bağ aşağıdakilerden hangisiyle kurulur?**

- A) Sezgiyle
B) İnançla
C) Akıl yürütmeye
D) Deney ve gözlemle

2. **Aşağıdakilerden hangisi sanat bilginin özelliklerindedir?**

- A) Yaratıcı insan aklının ürünü olma
B) Bilimsel yöntemle elde edilme
C) İnsan yaşamını kolaylaştırma
D) Nedensellik ilkesine dayanma

3. I- Genel olarak varlık
II- İnsanın eylemleri
III- Bilgi

Yukarıdakilerden hangileri felsefenin konuları arasında yer alır?

- A) I ve II. B) I ve III.
C) II ve III. D) I, II ve III.

1. OTURUM

4. Aşağıdakilerden hangisi felsefenin gerçekleştirdiği işlevlerden değildir?

- A) Bilginin üretilmesine katkıda bulunur.
B) İnsana, sorunlara ön yargısız yaklaşabilme özelliği kazandırır.
C) Yaptırım gücü sayesinde toplumsal yaşamı düzenler.
D) İnsana, açık seçik ve doğru düşünmeyi öğretir.

5. Aşağıdakilerin hangisinde metafizik ile ilgili doğru bir bilgi verilmiştir?

- A) Teknolojiye kaynaklık eder.
B) Duyularla algılanamayan alanla ilgilenir.
C) Genel geçer ve gözlenebilir olgulardan hareket eder.
D) Olgular arasındaki neden-sonuç ilişkisini araştırır.

6. Phyrhron'a göre, varlıkların bizzat kendilerini hiçbir zaman bilemeyiz. Yalnızca bize göründükleri şekilleriyle bilebiliriz ve bu görünüşlerin ötesine geçemeyiz. Bilgimizin kaynağı duyumdur ve duyular kişiden kişiye değiştiği için nesnel bir gerçekliğin bilgisine varılamaz.

Aşağıdaki yargılardan hangisi Phyrhron'un bu görüşüne uygundur?

- A) Doğru bilgiye ulaşmak mümkündür.
B) Duyular bizi varlığın bilgisine ulaştırır.
C) Varlıkların ne oldukları bilinmez bir konudur.
D) Varlığın bilgisi insan aklında doğuştan vardır.

7. Felsefenin görevi, dildeki kavramları çözümlenektir. Doğru bilgi ancak böyle elde edilebilir.

Bu görüşü savunan düşünce akımı aşağıdakilerden hangisidir?

- A) Pozitivizm
B) Empirizm
C) Rasyonalizm
D) Analitik Felsefe

8. "Zihnin ürettiği önermenin objeye tam olarak uymasidir."

Yukarıda bilgi kuramının hangi temel kavramı tanımlanmıştır?

- A) Süje
B) Doğruluk
C) Gerçeklik
D) Temellendirme

9. Sezgiye dayanan bilginin doğru olduğunu savunan görüş aşağıdakilerden hangisidir?

- A) Entüsyonizm B) Pragmatizm
C) Fenomenoloji D) Kritisizm

10. İnsanın pratik ihtiyaçlarını en kestirme yoldan karşılamayı amaçlayan, deneme-yanılma yoluyla elde edilen, düzensiz, yöntemsiz bir bilgi türüdür.

Yukarıda hangi bilgi türünün tanımı verilmiştir?

- A) Dini bilgi B) Sanat bilgisi
C) Teknik bilgi D) Gündelik bilgi

11. Aşağıdakilerden hangisi bilim felsefesinin sorularından biri değildir?

- A) Bilim nedir?
B) Bilimin değeri nedir?
C) Evrende özgürlük var mıdır?
D) Bilimsel yöntem nedir?

12. Aşağıdakilerin hangisinde bilimsel yöntemin aşamaları doğru olarak sıralanmıştır?

- A) Kuram - Hipotez - Deneysel - Gözlem
B) Gözlem - Hipotez - Deneysel - Kuram
C) Hipotez - Deneysel - Kuram - Gözlem
D) Deneysel - Kuram - Gözlem - Hipotez

13. Aşağıdaki görüşlerden hangisi bilimi etkinlik olarak ele alan yaklaşıma ters düşer?

- A) Bilim, bilim adamları topluluğunun bir etkinliğidir.
B) Bilim, dönemin değer ve inançlarından bağımsız değildir.
C) Bilim, düz bir çizgi şeklinde hep mükemmelle doğru ilerler.
D) Paradigmaların doğruluğundan ve yanlışlığından söz edilemez.

14. Bilimsel bilgi, kişiden kişiye ya da toplumdaki topluma değişmez.

Yukarıda bilimsel bilginin hangi özelliğinden söz edilmiştir?

- A) Eleştirelilik B) Objektiflik
C) Mantıksallık D) Genellenbilirlik

15. Aşağıdakilerden hangisi felsefe ile bilimin ortak özellikleri arasında yer almaz?

- A) Sistemli ve tutarlı olma
B) Evreni ve insanı açıklamaya çalışma
C) Akıl ve mantık ilkelerine dayalı olma
D) Olgular arasındaki neden-sonuç ilişkisiyle ilgilenme

16. Aşağıdaki görüşlerden hangisi Sokrates'e ait değildir?

- A) Düşünüyorum, öyleyse varım.
B) Sorgulanmamış hayat yaşanmaya değer.
C) Bildiğim bir şey var, o da hiçbir şey bilmediğim.
D) Erdem bilgidir ancak her bilgi erdem değildir.

17. Aşağıdaki filozoflardan hangisi kriticizm akımının temsilcisidir?

- A) I. Kant B) A. Comte
C) J. Locke D) E. Husserl

18. Varlıkların özüne ulaşmak için bir yöntem öne süren, öze ulaşmak için verilmiş tüm bilgilerin önce parantez içine alınması gerektiğini savunan felsefe akımı aşağıdakilerden hangisidir?

- A) Kritisizm B) Rasyonalizm
C) Pozitivizm D) Fenomenoloji

19. I. Bilginin değeri nedir?
II. Doğru bilgiye nasıl ulaşılır?
III. Evren sonlu mudur, sonsuz mudur?
Yukarıdakilerden hangileri bilgi kuramının temel soruları arasında yer alır?

- A) I ve II. B) I ve III.
C) II ve III. D) I, II ve III.

20. Aşağıdaki felsefi akımlardan hangisinin sözcük anlamı doğru olarak verilmiştir?

- A) Rasyonalizm = Eleştiricilik
B) Pragmatizm = Faydacılık
C) Pozitivizm = Deneycilik
D) Emprizm = Olguculuk

(132) TARİH – 2

1. Hz. Muhammed'e hangi özelliğinden dolayı "Muhammed'ül-Emin" denilmiştir?

- A) Zekilik B) Cömertlik
C) Güvenlilik D) Çalışkanlık

1. OTURUM

2. İslamiyet'in doğuşu sırasında Çin'e hangi hanedan egemendi?

- A) Sui B) Wei
C) Zhou D) Tang

3. Afrika'nın kuzeyi, İslamiyet'in doğuşu sırasında aşağıdaki devletlerden hangisinin egemenliği altında idi?

- A) Sasani B) Bizans
C) Moğol D) Kök Türk

4. Aşağıdakilerden hangisi, İslam tarihinin incelediği dönemler arasında yer alamaz?

- A) Uygurlar Dönemi
B) Abbasiler Dönemi
C) Gazneliler Dönemi
D) Dört Halife Dönemi

5. • Lat
• Menat
• Uzza

Verilenlerin ortak özelliği, aşağıdakilerden hangisidir?

- A) Ünlü Arap kabileleri
B) Arapların ünlü panayırıları
C) Arapların tapındığı büyük putlar
D) Kuzey Arabistan'da kurulan devletler

6. İslam tarihinde miladi 620 yılına "Üzüntü yılı" denilmesinin nedeni, aşağıdakilerden hangisidir?

- A) Uhud Savaşı'nda Hz. Hamza ile birlikte yaklaşık yetmiş sahabenin şehit olması
B) Hz. Muhammed'in amcası Ebu Talip ile eşi Hz. Hatice'yi kaybetmesi
C) Müslümanların, müşriklerin eziyetlerinden kaçmak için Habeşistan'a göç etmeleri
D) Hz. Muhammed'in Mekke'den Medine'ye hicret etmesi

7. İslam medeniyetinin aşağıdaki bölgelerden hangisine Türklerin etkisiyle yayıldığı söylenemez?

- A) Anadolu B) Balkanlar
C) Hindistan D) Kuzey Afrika

8. Türklerin büyük kitleler hâlinde İslamiyet'e geçişi, aşağıdaki devletlerden hangisi dönemine rastlar?

- A) Sasaniler
B) Emeviler
C) Abbasiler
D) Endülüslü Emevileri

9. Karahanlı Devleti'nin ikiye bölünmesinde etkili olan nedenler, aşağıdakilerden hangisinde birlikte verilmiştir?

- A) Taht kavgaları ile Haçlı Seferleri
B) Haçlı Seferleri ile Moğol saldırıları
C) Moğol saldırıları ile Selçuklu akınları
D) Taht kavgaları ile Gaznelilerle yapılan mücadeleler

10. Aşağıdaki Selçuklu komutanlarından hangisi 1067 yılında Malatya yakınlarında bir Bizans kuvvetini yenerek Kayseri'yi ele geçirmiştir?

- A) İbrahim Yınal B) Gümüştekin
C) Kavurd D) Afşin

11. Divan-ı İstifanın görev alanı, aşağıdakilerin hangisinde doğru verilmiştir?

- A) Mali işler
B) Askeri işler
C) Eğitim işleri
D) İç ve dış yazışmalar

12. Karahanlılar Dönemi'nde meydana getirilen yazılı eserler arasında aşağıdakilerden hangisi yoktur?

- A) Atabetü'l Hakayık
B) Danişmentname
C) Divan-ı Hikmet
D) Kutadgu Bilig

13. Aşağıdakilerden hangisi Türk - İslam devletlerindeki saray görevlilerinden değildir?

- A) Kapucubaşı B) Yargıcı
C) Emir-i alem D) Emir-i ahur

14. • Sultan Alp Arslan'ın komutanlarından Ahmet Gazi tarafından 1080 yılında kurulmuştur.

- Beylik kuruluş yıllarında Erzincan, Kemah, Divriği ve Şebinkarahisar dolaylarına hâkim olmuş, hükümdarlarından İshak Bey'in ölümünden sonra "Erzincan - Kemah" ve "Divriği" olmak üzere iki kola ayrılmıştır.

- Türkiye Selçukluları her iki beyliğin hâkimiyetine son vermiştir.

Bazı özellikleri verilen Türk beyliği, aşağıdakilerden hangisidir?

- A) Saltuklular B) Artuklular
C) Mengücekliler D) Danişmentliler

15. Türkiye Selçuklu Devleti'nde denizcilik alanındaki asıl gelişmeler Yükselmeye Dönemi'nde yaşanmıştır. Bu dönemin sultanları, ülkelerinde denizcilik ve deniz ticaretini geliştirmek amacıyla önemli çalışmalar yapmışlar ve bir takım önlemler almışlardır.

Aşağıdakilerden hangisi bu çalışmaların sonucunda ortaya çıkan gelişmelerden biri olamaz?

- A) Kıyıların güvenliğinin sağlanması
B) Sinop ve Alanya tersanelerinin kurulması
C) Üretilen malların limanlardan ihraç edilmesi
D) Ülkenin yönetim bakımından idari bölümlere ayrılması

16. Aşağıdaki devletlerden hangisinin kurulduğu coğrafya, diğerlerinden farklıdır?

- A) İhşidler B) Akhunlar
C) Gazneliler D) Karahanlılar

17. Aşağıdakilerden hangisi, Türk - İslam devletlerinde toprak sistemini oluşturan bölümlerden biri değildir?

- A) Has B) İkta
C) Tezhip D) Mülk

18. I. Miryokefalon Savaşı - I. İzzeddin Keykavus
II. Köseadağ Savaşı - II. Gıyaseddin Keyhüsrev
III. Yassı Çimen Savaşı - I. Alâeddin Keykubat
IV. I. Haçlı Seferi - II. Kılıç Arslan
Yukarıda verilen "savaş - hükümdar" eşleştirmelerinden hangileri doğrudur?

- A) Yalnız I B) I ve II.
C) II ve III. D) III ve IV.

19. Selçukluların, Anadolu'daki şehirler arasında kervansaraylar inşa etmelerinin temel nedeni, aşağıdakilerden hangisidir?

- A) Ticareti geliştirmek
B) Şehirleri güzelleştirmek
C) Yoksullara yardım etmek
D) Sınır güvenliğini sağlamak

20. Aşağıdaki eserlerden hangisi Türkiye Selçuklularından kalmadığıdır?

- A) Divriği Ulu Camii
B) Erzurum Üç Kümbetler
C) Mardin Hatuniye Medresesi
D) Aksaray - Kayseri yolu üzerindeki Alay Hanı

1. OTURUM

(136) TARİH – 6

1. Bizans'ın merkezi olan İstanbul, Arap orduları tarafından ilk kez aşağıdaki dönemlerin hangisinde kuşatılmıştır?

- A) Hz. Muhammed Dönemi
- B) Dört Halife Dönemi
- C) Emeviler Dönemi
- D) Abbasiler Dönemi

2. Aşağıdakilerden hangisi "ganimet" kavramının tanımıdır?

- A) Savaşta ve yağma sırasında ele geçirilen mal
- B) Müslümanlardan onda bir oranında alınan ürün vergisi
- C) Müslüman olmayan halktan alınan arazi ve gelir vergisi
- D) Zengin Müslümanların mallarından kırkta bir oranında alınan vergi

3. Miladi 707 yılında Mesleme idaresindeki Araplar, aşağıdaki hangi Türk boyunu yaşadıkları yerlerden Kafkasların kuzeyindeki Dağıstan bölgesine sürmüşlerdir?

- A) Peçenekleri
- B) Hazarları
- C) Sabarları
- D) Avarları

4. Tolunoğulları zamanında muhtare adı verilen özel muhafız birliği aşağıdakilerden hangisi tarafından kurulmuştur?

- A) Ceş
- B) Harun
- C) Şeyban
- D) Humaraveyh

5. Selçuklu Türklerinin batya doğru ilerlemelerinin önünü açan ve Horasan topraklarının Selçuklulara geçmesini sağlayan savaş, aşağıdakilerden hangisidir?

- A) Pasinler
- B) Malazgirt
- C) Dandanakan
- D) Yassı Çimen

6. Halife Kadir Billah, aşağıdaki hangi Gazne hükümdarına, Sumnat'taki büyük putu kırmasından dolayı "Kehfüddeve Ve'l-İslam" unvanını vermiştir?

- A) Sultan Mahmut
- B) Sultan Mesut
- C) Sultan Mevdut
- D) Behram Şah

7. Müslümanları, Haçlılara karşı korumaya çalışan son Büyük Selçuklu hükümdarı, aşağıdakilerden hangisidir?

- A) Sultan Sencer
- B) Mehmet Tapar
- C) Tuğrul Bey
- D) Melikşah

8. Selçukluların atası Selçuk Bey, Oğuz Yabgu Devleti'nde hangi görevde bulunuyordu?

- A) Subaşı
- B) Kadı
- C) Ulak
- D) Pervaneci

9. Romen Diyojen'in Türkleri Anadolu'dan çıkarmak amacıyla hazırladığı orduda, aşağıdaki Türk topluluklarından hangisi yoktur?

- A) Uzlar
- B) Kıpçaklar
- C) Uygurlar
- D) Peçenekler

10. "Ben Alp Arslan'ın büyük kardeşi, sen küçük oğlusun. Kardeşim Alp Arslan'ın mirasına ben senden daha çok layığım." diyerek Melikşah'a isyan eden devlet adamı, aşağıdakilerden hangisidir?

- A) Kavurd
- B) Sencer
- C) Çağrı Bey
- D) Berkayaruk

11. Çağatay Türkçesinin en büyük şairi olarak kabul edilen Ali Şir Nevai'nin, Türkçenin Farsçadan daha zengin bir dil olduğunu ispatlamak amacıyla yazdığı eseri, aşağıdakilerden hangisidir?

- A) Kitabü'l Cebr ve'l- Mukabele
- B) Muhakemet'ül Lügatayn
- C) Divan-ı Lügat-it-Türk
- D) Şehname

12. Aşağıdakilerden hangisi Karahanlı Devleti'nin özelliklerinden biridir?

- A) Gazneliler tarafından yıkılması
- B) Anadolu'yu Türk yurdu yapmaları
- C) Hakanlarının "Sultan" unvanını taşımaları
- D) Orta Asya'da kurulan ilk Müslüman Türk devleti olması

13. Aşağıdaki topluluklardan hangisi, Karahanlı Devleti'nin kurucu unsurlarından değildir?

- A) Çiğil
- B) Karluk
- C) Kırgız
- D) Yağma

14. Moğolların, Tebriz - Tahran şehirleri arasında kurdukları kent, aşağıdakilerden hangisidir?

- A) Hemedan
- B) Sultaniye
- C) Herat
- D) Rey

15. Cengiz Han Döneminde Moğol hâkimiyetine giren ilk Türk kavmi, aşağıdakilerden hangisidir?

- A) Sabar
- B) Karluk
- C) Kırgız
- D) Avar

16. Aşağıdakilerden hangisi Hindistan'da kurulan Türk devletlerinden biridir?

- A) Babür Devleti
- B) Safevi Devleti
- C) Memluk Devleti
- D) Karahanlı Devleti

17. Aşağıdakilerden hangisi Çağatay Türkçesini kullanmamıştır?

- A) Moğollar
- B) Babürlüler
- C) Timurlular
- D) Karahanlılar

18. Hindistan'da kendi adıyla anılacak bir devlet kuran hükümdar aşağıdakilerden hangisidir?

- A) Cihangir
- B) Babür
- C) Alemgir
- D) Bahadır

19. Aşağıdaki hangi devlette sosyal yapının kumanda zinciri "Kağan - Köbegün - Noyan - Nöker" şeklinde oluşmuştur?

- A) Moğollarda
- B) Timurlularda
- C) Memluklerde
- D) Babürlülerde

20. Aşağıdaki devletlerden hangisi İngilizler tarafından ortadan kaldırılmıştır?

- A) Akkoyunlu Devleti
- B) Karakoyunlu Devleti
- C) Timur Devleti
- D) Babür Devleti

1. OTURUM

(151) COĞRAFYA – 1

1. Aşağıdakilerden hangisi fiziki coğrafyanın alt dallarından biri olan jeomorfolojinin araştırma alanı ile ilişkilidir?

- A) Atmosfer B) Litosfer
C) Hidrosfer D) Biyosfer

2. Silindirik projeksiyon ile aşağıdaki yerlerden hangisinin haritası çizilirken hataları en aza indirmek amaçlanmıştır?

- A) Kuzey Kutbunun
B) Güney Kutbunun
C) Ekvator çevresinin
D) Dönenceler çevresinin

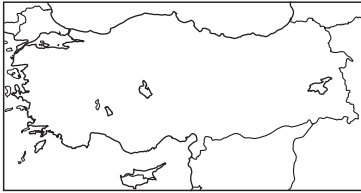
3. 36° - 42° kuzey paralelleri arasında yer alan Türkiye'nin kuzeyi ile güneyi arasındaki kuş uçuşu mesafe yaklaşık kaç km dir?

- A) 444 B) 666 C) 777 D) 999

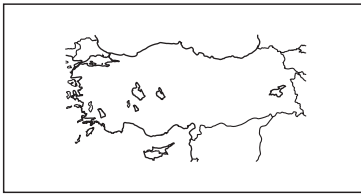
4. 45° doğu meridyeninde bulunan İğdir'da yerel saat 14:00 iken aynı anda başlangıç meridyeninde yerel saat kaçtır?

- A) 10:00 B) 11:00
C) 16:30 D) 17:00

5.



1/30.000.000



1/50.000.000

Görseldeki farklı ölçekte çizilmiş iki Türkiye haritasında aşağıdaki özelliklerden hangisi değişmez?

- A) Gerçek uzaklık
B) Haritadaki uzaklık
C) Haritanın kapladığı alan
D) Ayrıntıyı gösterme gücü

6. Gerçek alanı 500 km² olan bir adanın 5 cm² ile gösterildiği haritanın ölçeği nedir?

- A) 1/100
B) 1/100.000
C) 1/1.000.000
D) 1/10.000.000

7. Haritalarda yüzey şekillerini gösteren yöntemlerle ilgili verilen bilgilerden hangisi yanlıştır?

- A) Kabartma yöntemi ile haritadaki yerin üç boyutlu maketi yapılır.
B) Eş yükselti yönteminde eğim arttıkça izohipsler sıklaşır.
C) Gölgeleme yönteminde eğim arttıkça gölge koyulaşır.
D) Renklendirme yönteminde dağlar tarama ile gösterilir.

8. Güney Yarım Küre'de en uzun gündüz ne zaman yaşanır?

- A) 21 Aralık B) 21 Haziran
C) 21 Mart D) 23 Eylül

9. Aşağıdakilerden hangisi Dünya'nın Güneş etrafında dönüşünün sonuçlarından biridir?

- A) Meltem rüzgârları oluşur.
B) Sürekli rüzgarlarda sapmalar oluşur.
C) Gece gündüz süreleri yıl boyunca değişir.
D) Dinamik basınç kuşakları oluşur.

10. Su buharının tamamının bulunduğu atmosfer katı hangisidir?

- A) Termosfer B) Mezosfer
C) Stratosfer D) Troposfer

11. Sabah, öğle ve akşam saatlerinde hava şartları aynı kalsa bile güneş ışınlarının ısıtma gücünün değişmesinin temel sebebi aşağıdakilerden hangisidir?

- A) Dünya'nın eksen eğikliği
B) Güneş'in kendi çevresinde dönmesi
C) Dünya yörüngesinin elips şeklinde olması
D) Güneş ışınlarının geliş açısının sürekli değişmesi

12. Yükselti farkından dolayı aşağıdaki şehirlerden hangileri arasındaki sıcaklık farkı daha fazladır?

- A) Adana – Ağrı
B) Ankara – Yozgat
C) İzmir – Manisa
D) Sivas – Erzincan

13. Aşağıda verilen yerlerin hangisinde Temmuz ayı sıcaklık ortalaması daha yüksektir?

- A) Avustralya'da
B) Kuzey Afrika'da
C) Batı Avrupa'da
D) Güney Amerika'nın güneyi'nde

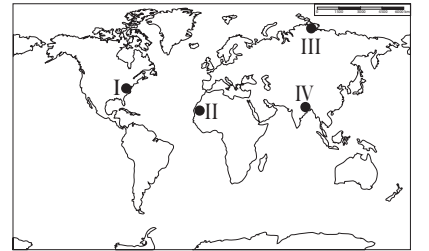
14. Aşağıdakilerden hangisi Batı rüzgârlarının özelliğidir?

- A) Devirli rüzgârlardır.
B) Kuru karakterlidirler.
C) Gittikleri yerde sıcaklığı düşürürler.
D) 30° paralellerinden 60° paralelleri- ne eserler

15. Kutup ikliminin etkisinde olan yerlerde güneşlenme süresinin uzunluğuna rağmen sıcaklık değerlerinin düşük olmasının sebebi aşağıdakilerden hangisidir?

- A) Bitki örtüsünün fakir olması
B) Nem miktarının düşük olması
C) Güneş ışınlarının eğik açıyla gelmesi
D) Arazinin kar ve buzlarla kaplı olması

16.



Haritada numaralandırılarak verilen yerlerin hangisinde muson iklimi etkilidir?

- A) I. B) II. C) III. D) IV.

17. Günümüzden 3,7 milyar ile 600 milyon yıl önceki dönemi kapsayan ilk bitki ve tek hücreli canlıların ortaya çıktığı jeolojik zamanın adı nedir?

- A) Prekambrien B) Paleozoik
C) Mezozoik D) Neozoik

1. OTURUM

18. İskandinav Yarımadası'nın her yıl yaklaşık 2 mm ile 10 mm arasında yükselmesi hangi iç kuvvetin hareketine örnektir?

- A) Orojenez B) Seizma
C) Epirojenez D) Volkanizma

19. Akarsuyun göl veya denize ulaştığı kısmına ne ad verilir?

- A) Havza B) Ağız
C) Kaynak D) Yatak

20. Barkanlar nerede oluşan birikim şekilleridir?

- A) Çöllerde B) Dağlarda
C) Akarsularda D) Ormanlarda

(155) COĞRAFYA – 5

1. Aşağıdakilerden hangisi ekosistemleri oluşturan organik etmenlerden biridir?

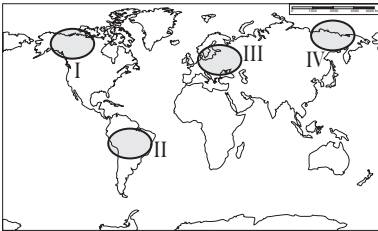
- A) Protein B) Oksijen
C) Yağış D) Karbondioksit

2. Coğrafi özellikleri benzerlik taşıyan yerlerde canlı türleri arasında da benzerlikler bulunur.

Buna göre aşağıda verilen yerlerden hangileri arasında yaşayan canlılar arası benzerlik daha fazladır?

- A) Orta Amerika - Kuzey Avrupa
B) Hindistan Yarımadası - Sibiryası
C) Kuzey Afrika - Arabistan Yarımadası
D) Grönland Adası - Amazon havzası

3.



Haritada numaralandırılarak verilen alanların hangisinde canlı dağılımını belirleyen en önemli faktör yüksek sıcaklık ve fazla yağış miktarıdır?

- A) I. B) II. C) III. D) IV.

4. Aşağıdakilerden hangisi biyosferi ultraviyole ışınlarından koruyan atmosfer gazıdır?

- A) Ozon B) Azot
C) Karbon D) Karbondioksit

5. Günümüz Japonya'sında izlenen nüfus politikasının temel yapısı aşağıdakilerden hangisine yöneliktir?

- A) Nüfus artış hızının düşürülmesine
B) Nüfus artış hızının artırılmasına
C) Nüfus miktarının sabit kalmasına
D) Herhangi bir nüfus politikası uygulamamaya

6. Dünya ekonomisi ve politikasında küreselleşerek önemli bir merkez haline gelen kentlerin bu güce ulaşmasında aşağıdaki özelliklerinden hangisinin etkisi en azdır?

- A) Doğal ve tarihi zenginliklerinin
B) Ekonomik faaliyetlerinin
C) Coğrafi konumlarının
D) Nüfus artış hız oranının

7. Şehir ve buraya ait karakteristik özelliğiyle ilgili aşağıda yapılan eşleştirmelerden hangisi yanlıştır?

- A) Paris → Moda merkezi
B) Oxford → Eğitim hizmetleri
C) Mekke → Dini merkez
D) Roma → Kömür madenleri

8. Aşağıdakilerin hangisi ekonomik faaliyet olarak değerlendirilemez?

- A) İstanbul'daki beyaz eşya fabrikasının yeni ürünler üretmesi
B) Murat Bey'in internetten kiralık ev araması
C) Kars'ta üretilen kaşar peynirinin Ankara'da markette satılması
D) Zonguldak'ta çıkarılan kömürün demir-çelik fabrikasına taşınması

9. Kullanım alanı çok çeşitli olup Dünya'nın her yerinde bulunmayan bir ham madde, tüketici diğer ülkelere çeşitli ulaşım sistemleri sayesinde taşınıp ithal edilerek küresel ölçekte önemli ekonomik değer haline gelir.

Aşağıdakilerden hangisi buna gösterilebilecek en iyi örnektir?

- A) Süt B) Petrol
C) Pamuk D) Krom

10. I. Teknolojik gelişmeler
II. Ülkeler arası gelişmişlik farkı
III. Dünya nüfusunun artması
IV. Yenilenebilir enerji kaynaklarına yönelme

Doğal kaynakların öneminin sürekli artmasında verilenlerden hangilerinin etkisi daha fazladır?

- A) Yalnız III B) I ve II.
C) I ve III. D) II ve IV.

11. Aşağıdakilerden hangisi tüketimi etkileyen faktörlerden biridir?

- A) Gelir düzeyi
B) Sanayinin etkisi
C) Sermaye birikimi
D) İş gücü kaynakları

12. Aşağıdaki şehirlerin hangisinde petrol rafinerisi yoktur?

- A) İzmir B) Kocaeli
C) İstanbul D) Batman

13. I. Rüzgar
II. Dalga
III. Güneş
IV. Doğal gaz

Yukarıdakilerden hangisi tükenen kaynaklardandır?

- A) I. B) II. C) III. D) IV.

14. Doğal kaynaklar yönünden fakir ancak sermaye, iş gücü ve teknoloji açısından zengin ülkeler dışarıdan hammadde alıp işleyerek açıklarını kapatır.

Aşağıdaki ülkelerden hangisi bu duruma örnek gösterilebilir?

- A) Moğolistan B) Japonya
C) Rusya D) Nijerya

15. Gökaltın yarıyıl tatilinde kış sporları yapmak istiyor.

Buna göre tatil planında aşağıdaki dağlardan hangisinin bulunmaması gerekir?

- A) Yıldız Dağları
B) Erciyes Dağı
C) Uludağ
D) Palandöken Dağı

16. Ülkemizde makinalı tarımın en az yapıldığı yerlerden biri aşağıdakilerden hangisidir?

- A) İç Anadolu
B) Doğu Karadeniz
C) Güney Marmara
D) Güneydoğu Anadolu

1. OTURUM

17.



Haritada üretim alanları noktalarla gösterilen tarım ürünü aşağıdakilerden hangisidir?

- A) Fındık B) İncir
C) Zeytin D) Arpa

18. Türkiye'nin rezerv bakımından Dünya'da birinci sırada olduğu maden hangisidir?

- A) Demir B) Bakır
C) Krom D) Bor

19. Aşağıdaki şehir-sanayi eşleştirmelerinden hangisi yanlıştır?

- A) Bolu – Otomotiv sanayi
B) Aydın – Konserve sanayi
C) Denizli – Pamuklu dokuma
D) Karabük – Demir-çelik sanayi

20. Aşağıdaki illerin hangisinde çığ riski daha yüksektir?

- A) Yozgat B) Ankara
C) Ağrı D) Çanakkale

(157) COĞRAFYA – 7

1. Aşağıdakilerden hangisi iklimolojik kökenli ekstrem doğa olaylarından?

- A) Tsunami B) Fırtına
C) Deprem D) Volkanizma

2. Aşağıdakilerden hangisi kuraklığın etkilerinden biri değildir?

- A) Tarımsal üretimin azalması
B) Orman yangınlarının yaşanması
C) Bitki örtüsünün zarar görmesi
D) Kirli suların temiz sulara karışması

3. Dünya'nın en uzun su altı tüneli olan Manş Tüneli hangi ülkeler arasındadır?

- A) İspanya – İtalya
B) İsveç – Almanya
C) İngiltere – Fransa
D) Hollanda – Danimarka

4. Aşağıdakilerden hangisi küresel ısınmadan dolayı ortaya çıkabilecek sorunlardan biri değildir?

- A) Buzulların erimesi ile okyanusların ve denizlerin tuzluluk oranının değişmesi
B) İklim şartlarının değişmesiyle bitki ve hayvan türlerinin yaşam alanının genişlemesi
C) Okyanus ve denizlerdeki akıntı sisteminin değişmesi
D) Akıntı sisteminin değişmesi ile iklim koşullarının değişmesi

5. Mısır uygarlığının gelişmesinde aşağıdakilerden hangisinin etkisi olmamıştır?

- A) Uygun iklim şartlarının
B) Nil Nehri'ne sahip olmasının
C) Madencilik faaliyetlerinin
D) Verimli topraklara sahip olmasının

6. Büyük okyanus kıyılarına paralel uzanan And Dağları üzerinde yaşamışlardır. Astronomik gözlemler yaparak güneşin yıllık hareketlerini inceleyip, güneş saatini yapan medeniyet aşağıdakilerden hangisidir?

- A) İnka B) Maya
C) Fenike D) Lidya

7. Sümerler aşağıdakilerden hangisini ilk kullanan medeniyettir?

- A) Tekerleği B) Yazıyı
C) Pusulayı D) Barutu

8. Sanayileşen ülkelerde şehirleşme oranı yüksektir.

Buna göre aşağıdaki ülkelerden hangisinde şehirleşme oranı diğerlerinden düşüktür?

- A) Etiyopya B) Fransa
C) İngiltere D) Almanya

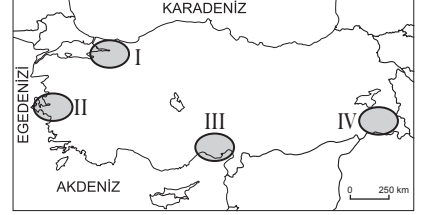
9. Dünya ekonomisinin geleceği için aşağıdakilerden hangisi söylenemez?

- A) Hizmetlerin ucuzlaması
B) Ticari örgütlenme ile dünya pazarı oluşması
C) Daha kısa sürede, daha kaliteli ve daha çok üretim yapılması
D) Ürünlerin tüketim merkezine ulaşmasının zorlaşması

10. Aşağıdakilerden hangisi doğal faktörlere göre oluşturulan bölgelere örnektir?

- A) Plato bölgesi
B) Serbest ticaret bölgesi
C) Turizm bölgesi
D) Toplu yerleşme bölgesi

11.



Haritada numaralandırılarak verilen yerlerin hangisi az nüfuslu bölge olarak nitelendirilebilir?

- A) IV. B) III. C) II. D) I.

12. Türkiye'nin aşağıda verilen özelliklerinden hangisi ulaşım sektörünün gelişmesi için elverişli imkânlar sunar?

- A) Yer şekillerinin dağlık olması
B) Üç kıtanın birleştiği yerde olması
C) Büyük kısmında karasal iklim yaşanması
D) Ortalama yükseltisinin bin metreyi aşması

13. Türkiye sınırları içindeki ilk demir yolu hattı hangi şehirlerimiz arasında inşa edilmiştir?

- A) Ankara – İstanbul
B) İzmir – Manisa
C) İzmir – Aydın
D) Edirne – İstanbul

14. Petrol ve doğal gaz aşağıdaki sistemlerden hangisiyle daha kolay ve ucuz taşınır?

- A) Kara yolu B) Demir yolu
C) Deniz yolu D) Boru hatları

15. I. Teknolojik düzey
II. Doğal afetler
III. Göç hareketleri
IV. Sanayileşme

Yukarıda verilenlerden hangileri ulaşım araç ve sistemlerinin gelişmesini daha fazla etkilemiştir?

- A) I ve II. B) I ve IV.
C) II ve III. D) III ve IV.

1. OTURUM

16. Aşağıdakilerden hangisi bir bölgede veya ülkede ticaretin gelişmesine katkı sağlamaz?

- A) Üretimin artması
- B) Gelirlerin artması
- C) Ulaşımın gelişmesi
- D) Enerjinin pahalalanması

17. Türkiye'de 1980'den sonra hangi ekonomi politikası benimsenmiştir?

- A) Tarıma dayalı ekonomi
- B) İthalata dayalı ekonomi
- C) Serbest piyasa ekonomisi
- D) Madencilığe dayalı ekonomi

18. Aşağıdaki illerimizin hangisinde deniz turizmi diğerleri kadar gelişmemiştir?

- A) Muğla
- B) Ordu
- C) Aydın
- D) İzmir

19. Rafting sporu hangi doğal unsurda yapılan bir turizm etkinliğidir?

- A) Göl
- B) Mağara
- C) Akarsu
- D) Deniz

20. Aşağıdakilerden hangisi Şanlıurfa'nın turistik zenginliğidir?

- A) Harran Evleri
- B) Ani Harabeleri
- C) Nemrut Heykelleri
- D) İshak Paşa Sarayı

(181) İNGİLİZCE – 1

1-20. sorularda boş bırakılan yere uygun gelen kelime ya da ifadeyi işaretleyiniz.

1.



The cat is - - - - the bed.

- A) behind
- B) on
- C) under
- D) in

2. Jason and Tim are brothers. - - - - father is a doctor.

- A) They're
- B) Them
- C) They
- D) Their

3. Timothy is a lazy student. He - - - - studies his lessons.

- A) often
- B) usually
- C) never
- D) always

4. Aylin hasn't got - - - - books.

- A) some
- B) much
- C) any
- D) little

5. There - - - - a dog in front of the car.

- A) is
- B) are
- C) do
- D) does

6. Be quiet! The baby - - - - .

- A) sleep
- B) sleeps
- C) sleeping
- D) is sleeping

7. My father will go to İzmir - - - - .

- A) two years ago
- B) next weekend
- C) every Sunday
- D) at the moment

8. Look at those black clouds. It - - - - .

- A) is going to rain
- B) is raining
- C) rained
- D) rain

9. Children - - - - play with fire.

- A) doesn't have to
- B) mustn't
- C) should
- D) will

10. We - - - - hurry. We have enough time.

- A) would
- B) should
- C) wouldn't
- D) shouldn't

11. How - - - - flour do you need for the cake?

- A) any
- B) some
- C) much
- D) many

12. I - - - - read a lot in the past but now I do.

- A) didn't use to
- B) shouldn't
- C) used to
- D) should

13. I - - - - an old friend from university last night.

- A) walked
- B) played
- C) read
- D) met

14. My brother has a job interview tomorrow. So he - - - - very early.

- A) is going to get up
- B) getting up
- C) gets up
- D) got up

15. I have a very important homework so I - - - - study hard.

- A) could
- B) should
- C) couldn't
- D) shouldn't

16. Dan : Excuse me! - - - - ?

Mel : First turn right and go along the street, it is on your left.

- A) What time is it
- B) How are you today
- C) When are you leaving
- D) How can I go to the hospital

17. Son : - - - - I go out, dad?

Dad : Sure, but don't be late.

- A) May
- B) Has
- C) Have
- D) Does

18. I am going to have some guests this weekend, so - - - - .

- A) she must study
- B) we may read a book
- C) I must clean the house
- D) they can watch a film tonight

19. Ryan is very thirsty, so - - - - .

- A) she will have a cake
- B) we are going to swim
- C) they are studying together
- D) he will have something cold

1. OTURUM

20. I am very hungry, so - - - .

- A) I need to eat something
- B) they will drink coffee
- C) he is coming tonight
- D) she must eat soup

(181) ALMANCA – 1

1-18. sorularda boş bırakılan yere uygun gelen kelime ya da ifadeyi işaretleyiniz.

1. Vier Wochen sind - - - .

- A) ein Tag
- B) eine Woche
- C) ein Monat
- D) ein Jahr

2. - - - Juli fahren wir zu meiner Tante nach Side.

- A) Im
- B) Am
- C) Um
- D) Bei

3. 18, - - - , 20

- A) Siebzehn
- B) Neunzehn
- C) Einundzwanzig
- D) Neunzig

4.



Wie spät ist es?
Es ist - - - .

- A) Viertel nach acht.
- B) halb acht
- C) Viertel vor acht
- D) Viertel vor neun

5. Die Kind- - - - spielen auf dem Spielplatz.

- A) -e
- B) -es
- C) -en
- D) -er

6. Dienstag, - - - , Donnerstag

- A) Montag
- B) Freitag
- C) Mittwoch
- D) Sonntag

7. Sabine ist kürzer - - - - Serap.

- A) als
- B) bis
- C) so
- D) um

8. Ahmet : Thomas, kannst du mir dein Heft - - - - ?

Thomas: Ja, gerne.

- A) gebe
- B) gibt
- C) geben
- D) gibst

9.



A: Ist das ein Lastwagen?

B: Nein, es ist ein - - - - .

- A) Auto
- B) Bus
- C) Zug
- D) Flugzeug

10. A: - - - - du auch Fußball?

B: Ja, ich - - - - Fußball.

- A) Spielen / spielst
- B) Spielt / spielen
- C) Spielt / spiele
- D) Spielst / spiele

11. Dezember, - - - , Februar

- A) März
- B) Januar
- C) November
- D) April

12. Ali: - - - - hast du in der Tasche?
Petra: Meine Bücher.

- A) Womit
- B) Wie
- C) Was
- D) Woher

13. Ali fragt, - - - - er Fußball spielen darf?

- A) vorher
- B) nach
- C) was
- D) ob

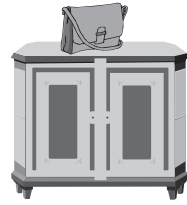
14. Mein- - - - Schwester heißt Esra.
- - - ist 10 Jahre alt.

- A) - / Er
- B) -er / Sie
- C) -e / Sie
- D) -en / Er

15. Ein Flugzeug ist - - - - .

- A) stehen
- B) schlau
- C) dumm
- D) schnell

16.



Die Tasche liegt - - - - dem Schrank.

- A) im
- B) auf
- C) am
- D) unter

17. A: Guten Abend! - - - - du Thomas?
B: Ja, ich - - - - Thomas.

- A) Bist / bin
- B) Ist / sind
- C) Heißt / ist
- D) Ist / bin

18. A: - - - schreibst du deine Hausaufgabe?
B: Mit dem Bleistift.

- A) Was
- B) Warum
- C) Weil
- D) Womit

19. Aşağıdaki sıfatlardan hangisinin karşıtı doğru verilmiştir?

- A) wenig - viel
- B) warm - lang
- C) kalt - kurz
- D) teuer - schnell

20. Aşağıdakilerden hangisi anlamca diğerlerinden farklıdır?

- A) Deutschland
- B) Berlin
- C) England
- D) Italien

(181) FRANSIZCA – 1

1-16. sorularda boş bırakılan yere uygun gelen kelime ya da ifadeyi işaretleyiniz.

1. - - - - aiment le gâteau au chocolat.

- A) Tu
- B) Il
- C) Elles
- D) Elle

1. OTURUM

2. ---- suis allé en Espagne.

- A) Je B) Tu
C) Il D) Elle

3. Elif ---- à Paris par avion avec la compagnie Turkish Airlines.

- A) est arrivé
B) suis arrivé
C) es arrivé
D) est arrivée

4. Samedi dernier, nous ---- déjeuné au restaurant.

- A) as B) avons
C) es D) avez

5. Je ---- sorti du musée de Topkapı à 16 heures.

- A) ont B) as
C) est D) suis

6. Fikret a passé ---- à Bursa chez son oncle.

- A) l'hiver
B) la rue
C) le cinéma
D) le théâtre

7. Ma fille a travaillé ---- l'été dans un supermarché.

- A) toute B) personne
C) tout D) chaque

8. Ahmet a ---- voiture de sport que moi.

- A) l'autre B) la même
C) les mêmes D) certaine

9. A: Paul est divorcé ?

B: Non, ----.

- A) il est assez jeune
B) il est encore marié
C) il est encore sportif
D) il est divorcé

10. Si tu venais dîner chez moi, je (j') ---- contente.

- A) suis B) étais
C) ai été D) serais

11. S'il fait chaud, mes parents ---- à la plage.

- A) était allé B) étiez allés
C) iront D) iriez

12. A: Tu travailles aux États-Unis ?

B: Oui, j'y ---- depuis deux ans.

- A) ne pas travailler
B) ne travaille pas
C) travailler
D) travaille

13. A: Tu as déjà lu ce livre ?

B: Oui, je ---- ai lu le mois dernier.

- A) le (l') B) leur
C) les D) la (l')

14. A: Il aime la tarte aux fraises ?

B: Oui, il ---- aime beaucoup.

- A) les B) du
C) la(l') D) de la

15. A: Tu veux encore du café ?

B: Non, je ne veux plus ---- café.

- A) des B) de
C) du D) de la

16. Un violon sert à ----.

- A) fermer la porte
B) faire de la peinture
C) se laver les dents
D) faire de la musique

17. Cümleler sırasıyla okunduğunda anlam bütünlüğünü bozan cümleyi bulunuz.

(I) Il est assez jeune. (II) Il y a de la neige. (III) Il est gentil. (IV) Il a les yeux noirs.

- A) I. B) II. C) III. D) IV.

18-20. sorularda verilen resme göre doğru ifadenin bulunduğu seçeneği işaretleyiniz.

18.



- A) Elle a les cheveux longs et elle porte des lunettes.
B) Il a de la barbe et il porte une casquette noire.
C) Elle a les cheveux frisés et elle porte un foulard.
D) Il a les lèvres minces et il porte une casquette.

19.



Il est ---- et il a ----.

- A) paresseuse / les cheveux courts
B) musclé / de petites lunettes
C) blonde / de grandes dents
D) chauve / de la barbe

20.



Elle a le visage ----.

- A) ronde B) carrée
C) ovale D) pointue

(244) İNGİLİZCE – 5

1-20. sorularda boş bırakılan yere uygun gelen kelime ya da ifadeyi işaretleyiniz.

1. I haven't met her ---- last year.

- A) for B) ever
C) never D) since

1. OTURUM

2. It hasn't rained in Ankara - - - - two months.

- A) for B) yet
C) to D) since

3. Your car is cheaper - - - - mine.

- A) from B) after
C) than D) then

4. While I was sleeping, the phone - - - -.

- A) ring B) rings
C) rang D) rung

5. Selim - - - - his homework when I saw him.

- A) has done B) was doing
C) is doing D) will do

6. - - - - you - - - - to watch cartoons when you were a kid?

- A) Does / used B) Does / use
C) Did / used D) Did / use

7. We - - - - at home yesterday.

- A) were B) was
C) are D) is

8. Don't use your mobile phone in the class, - - - -?

- A) have you B) do you
C) are you D) will you

9. Özlem has bought a new ring, - - - -?

- A) won't she B) hasn't she
C) wasn't she D) didn't she

10. I - - - - around the world in the future.

- A) have travelled
B) was travelling
C) will travel
D) am travelling

11. While he was running, he fell down and - - - - his leg.

- A) breaking B) broken
C) broke D) break

12. I - - - - my mind since I met her.

- A) to change
B) will change
C) is changing
D) have changed

13. In the past, I - - - - eat more meat, but now I eat more vegetables.

- A) used to B) should
C) must D) can

14. Brush your teeth, - - - -?

- A) do we B) do you
C) will we D) will you

15. My father never wears hat, - - - -?

- A) doesn't she B) does he
C) has she D) hasn't he

16. Let's drink something cold, - - - -?

- A) are we B) shall we
C) can we D) will we

17. They were having breakfast - - - - the doorbell rang.

- A) which B) what
C) when D) who

18. Andy talks very - - - -. It is often difficult to hear him.

- A) early B) loudly
C) heavily D) quietly

19. I go to school - - - - than Jane.

- A) earlier B) happy
C) lately D) healthier

20. Ankara is - - - - than Erzurum. There are more people in Ankara.

- A) crowded
B) so crowded
C) more crowded
D) the most crowded

(244) ALMANCA – 5

1-17. sorularda boş bırakılan yere uygun gelen kelime ya da ifadeyi işaretleyiniz.

1. A: Wo möchtest du wohnen, in Ankara - - - - in Istanbul?

B: In Istanbul.


- A) weil B) aber
C) bis D) oder

2. A: Wann - - - - du Arzt werden?

B: In zwei Jahren.

- A) wirst B) bist
C) hast D) machst

3.



A: Wie spät ist es?

B: Es ist - - - - .

- A) Viertel nach vier
B) Viertel vor fünf
C) halb vier
D) halb fünf

4. Ich ging in den Kindergarten - - - - ich 3 Jahre alt war.

- A) ob B) wo
C) als D) denn

5. A: Susanne ist 15 Jahre alt. Wie alt - - - - du?

B: Ich bin auch 15.

- A) sind B) bin C) ist D) bist

6.



Nr. 40



Nr. 42

Ich habe Schuhgröße 40. Ahmet hat Schuhgröße 42.

Meine Schuhgröße ist - - - - als Ahmet seine.

- A) groß B) klein
C) kleiner D) größer

1. OTURUM

7. Im Unterricht - - - - man dem Lehrer gut zuhören.

- A) soll B) ist
C) hat D) kannst

8. - - - - Montag fahren wir ins Museum.

- A) Im B) Am C) Um D) Zum

9. Die Mutter - - - die Wohnung.

- A) kocht B) spielt
C) läuft D) putzt

10. Wir sind von Kızılay nach Ulus zu Fuß - - - - .

- A) gehen B) ging
C) gegangen D) geht

11.



A: Wie spät ist es?

B: Es ist - - - - .

- A) Viertel vor acht
B) acht Uhr
C) Viertel nach acht
D) halb acht

12. Ich habe Halsschmerzen, - - - - ich viel Eis gegessen habe.

- A) denn B) um
C) ob D) weil

13. Wir wollen - - - - Antalya leben, - - - - es ist sehr warm dort.

- A) um / denn B) in / aber
C) weil / denn D) in / ob

14. Mein Name - - - - Peter. Ich - - - - in Köln geboren.

- A) sind / um
B) heiÙe / wohne
C) ist / bin
D) bin / ist

15. Baklava ist sehr - - - - .

- A) süÙ B) salzig
C) bitter D) heiÙ

16. - - - - 2014 lerne ich - - - - der Schule Deutsch.

- A) Von / zu B) Seit / in
C) Um / bis D) Im / zu

17. Temel ist nicht - - - - dick - - - - Hans.

- A) so / wie B) wie / denn
C) ob / weil D) um / so

18. "Ich esse Pide, weil es mir schmeckt." **cümlesinin Türkçe karşılığı aşağıdakilerden hangisidir?**

- A) Ben pide yiyorum.
B) Pideyi lezzetli bulduğum için yiyorum.
C) Pide çok lezzetlidir.
D) Lezzetli olmadığı için pide yemiyorum.

19. Aşağıdaki sıfatlardan hangisinin zıt anlamısı **yanlıs** verilmiştir?

- A) teuer x billig
B) schnell x langsam
C) laut x leise
D) alt x älter

20. Aşağıdaki sıfatlardan hangisinin derecelendirilmesi **yanlıs** verilmiştir?

- A) dünn – dünnste – am dünnsten
B) billig – billiger – am billigsten
C) schnell – schneller – am schnellsten
D) kalt – kälter – am kältesten

(244) FRANZIZCA – 5

1-16. sorularda boş bırakılan yere uygun gelen kelime ya da ifadeyi işaretleyiniz.

1. - - - - part en vacances avec ses grands-parents.

- A) Elles B) Vous
C) Il D) Nous

2. - - - - n'aiment pas jouer au ballon avec Nicole.

- A) Elle B) Tu
C) Je D) Elles

3. Lisez bien - - - - est écrit au tableau.

- A) ce qui B) que
C) ce que D) donc

4. As-tu vu le film - - - - est passé hier soir à la télé ?

- A) ce que B) ce qui
C) que D) qui

5. Je ne connais pas la jeune fille - - - - tu cherches.

- A) où B) que
C) qui D) donc

6. - - - - il est fatigué, il écoute de la musique classique.

- A) Quand
B) Combien
C) Comment
D) Pourquoi

7. Nous avons fait du camping à Foça - - - - les vacances d'été.

- A) enfin B) il y a
C) pour D) pendant

8. Nous irons - - - - ensemble pour faire du ski nautique.

- A) au concert
B) à la bibliothèque
C) à la mer
D) au musée

9. - - - - elles sont allées en Italie.

- A) Lundi prochain
B) Juin prochain
C) La semaine dernière
D) Demain

1. OTURUM

10. Titanic est un film - - - - la fin est triste.

- A) que B) dont
C) où D) qui

11. Ma fille apprend l'anglais - - - - des CD.

- A) chanté
B) en chantant
C) écouté
D) en écoutant

12. Mme Duval - - - - dans le parc national, étudie les oiseaux.

- A) travaillant
B) oubliant
C) pendant
D) apportant

13. Pendant ses - - - - en bateau sur le Bosphore, elle boit du café.

- A) vêtements
B) promenades
C) animaux
D) romans

14. S'il neige demain, nous irons - - - - à Ilgaz.

- A) faire du ski
B) se réveiller
C) faire du ski nautique
D) faire de la plongée

15. - - - - avons fait des gâteaux dimanche dernier.

- A) Ma femme
B) Mon frère et sa femme
C) Ma fille et moi
D) Mon frère

16. - - - - France, on roule - - - - droite.

- A) Aux / au B) Au / aux
C) À / en D) En / à

17-18. sorularda verilen cümlelerin Türkçe karşılığını işaretleyiniz.

17. Les jeunes sont sortis de l'école en riant ensemble.

- A) Gençler okuldan gülüşerek çıktılar.
B) Gençler okulun avlusunda kol kola geziniyorlar.
C) Çocukların zayıflıktan kemikleri çıkmış.
D) Çocuklar atlaya zıplaya okula gidiyorlar.

18. Je prends du thé en mangeant du gâteau.

- A) Çayımı hazırlarken pasta yedim.
B) Pasta yaparken çay içtim.
C) Pastanın yanında çay olsun isterim.
D) Pasta yerken çay içerim.

19-20. sorularda verilen cümlelerin Fransızca karşılığını işaretleyiniz.

19. Sokakta şarkı söyleyen bir genç kız gördüm.

- A) J'ai vu un beau garçon chantant dans la rue.
B) J'ai vu une jeune fille chantant dans la rue.
C) J'ai rencontré un jeune dansant dans la cour.
D) Je vois une jeune fille dansant dans la cour.

20. Metin kahvaltısını yaparken telefonla konuşuyordu.

- A) Metin a répondu au téléphone en prenant son café.
B) Metin parlait au téléphone en prenant son petit déjeuner.
C) Metin parle toujours au téléphone en prenant le dîner.
D) Metin a parlé au téléphone en prenant du lait.

(401) DİL VE ANLATIM – 1

1. Ali Bey, dün iş yerinde bize yine bir Temel fıkrası anlattı.

Bu cümlede aşağıdaki iletişim öğelerinden hangisi yoktur?

- A) Gönderici
B) Alıcı
C) Dönüt
D) Bağlam

2. En güçlü iletişim şekli aşağıdakilerden hangisidir?

- A) İşaretleşme ile yapılan
B) Bakışma ile yapılan
C) Dil ile yapılan
D) Sembollerle yapılan

3. Dil, insanlara özgü bir iletişim aracıdır. Çevremizde gördüğümüz canlı varlıklar birtakım sesler çıkarır. Köpekler havlayarak, kediler mi-yavlayarak, atlar kişneyerek kendi aralarında anlaşır. İnsanlar ise kendi aralarında konuşarak ve yazarak iletişim kurarlar.

Bu parçada aşağıdakilerin hangisi üzerinde durulmaktadır?

- A) İletişimin önemi
B) İletişim şekilleri
C) İletişimin tanımı
D) İletişimin tarihî gelişimi

4. İsmail Öğretmen, dil ve anlatım dersinde "yemiş" sözcüğünün eskiden bütün meyveler için kullanıldığını ancak günümüzde sadece incire yemiş dendiğini söylemiştir.

İsmail Öğretmen'in verdiği bu bilgi dil bilgisinin aşağıdaki bölümlerinden hangisinin inceleme alanına girer?

- A) Ses bilgisi (fonetik)
B) Biçim bilgisi (morfoloji)
C) Köken bilim (etimoloji)
D) Anlam bilim (semantik)

5. Bir ülke sınırları içinde farklı bölgelerde konuşulan dile - - - -, o ülkenin resmî yazışma diline ise - - - - denir.

Bu cümlede boş bırakılan yerlere aşağıdakilerden hangileri sırasıyla getirilmelidir?

- A) şive – lehçe
B) lehçe – şive
C) ağız – yazı dili
D) yazı dili – konuşma dili

1. OTURUM

6. Aşağıdaki sözcüklerden hangisine ünlü ile başlayan bir ek getirildiğinde ünlü düşmesi olmaz?

- A) Cisim B) Ritim
C) Resim D) Kesim

7. Aşağıdaki cümlelerin hangisinde "ki"nin yazımıyla ilgili bir yanlışlık yapılmıştır?

- A) Emrinde ki işçilere talimatlar yağdırıyordu.
B) İyice çalış ki sınıfını geçesin.
C) Dünkü derste çok eğlendik.
D) Ağlasın ki biraz rahatlasın.

8. O yıllarda erkek çocuklarına Ali, Mustafa, Mehmet () kız çocuklarına Zeynep, Türkan, Ayşe gibi isimler veriliyordu.

Bu cümlede yay ayrıçla belirtilen yere aşağıdaki noktalama işaretlerinden hangisi getirilmelidir?

- A) Nokta (.)
B) Virgül (,)
C) Noktalı virgül (;)
D) İki nokta (:)

9. Bana hayattan ne öğrendiğimi soruyorlar () Hayattan tek bir şey öğrendim () Dürüstlük ()

Bu parçada yay ayrıçla belirtilen yerlere aşağıdaki noktalama işaretlerinden hangileri sırasıyla getirilmelidir?

- A) (?) (:) (...)
B) (.) (:) (.)
C) (?) (.) (.)
D) (:) (...) (:)

10. Aşağıdaki sözcüklerin hangisi küçük ünlü uyumuna uymamaktadır?

- A) Çamurluk B) Yoğun
C) Başlangıç D) Genişçe

11. Dilin en önemli özelliği toplumdaki insanlar arasında anlaşma sağlayan sosyal bir kurum olmasıdır. Dilin kendine göre birtakım yasaları vardır. İhtiyaçlar doğrultusunda dilde yeni sözcükler türetilir, kullanılan bazı sözcükler anlam kaymasına uğrar. Kullanılmayan sözcükler de unutulup gider. Bu bakımdan dil canlı bir varlıktır.

Bu parçada "dil" ile ilgili aşağıdakilerden hangisine değnilmemiştir?

- A) Yaşayan bir varlık olduğuna
B) Kurallarının bulunduğu
C) Değişime uğrayabileceğine
D) Korunması gerektiğine

12. • Ünlü uyumu vardır.
• Sözcüklerde dil bilgisi bakımından erkek ve dişi tür ayrımı vardır.
• Bazı ekler çekim eki olmalarına rağmen yapım eki olarak da kullanılabilir.

Ural-Altay dilleriyle ilgili verilen bu cümleler doğru-yanlış olarak değerlendirildiğinde sıralama aşağıdakilerden hangisi olur?

- A) D – D – Y B) Y – Y – D
C) D – Y – D D) Y – D – D

13. Türkçenin kendine özgü kurallarının oluşmadığı dönemdir. Bu dönemde Türkçe-Moğolca dil birliği görülür.

Bu parçada hakkında bilgi verilen dönem aşağıdakilerden hangisidir?

- A) İlk Türkçe Çağı
B) Eski Türkçe Çağı
C) Orta Türkçe Çağı
D) Altay Çağı

14. Aşağıdakilerden hangisi Türkçenin gelişmesine katkı sağlayan eserlerden biri değildir?

- A) Kutadgu Bilig
B) Şehname
C) Divanü Lügati't Türk
D) Atabet'ül Hakayık

15. En geniş anlamıyla konuşmayı sağlayan hareketlerin tümüne - - - - denir.

Bu cümlede boş bırakılan yere aşağıdakilerin hangisi getirilmelidir?

- A) telaffuz B) argo
C) vurgu D) jargon

16. Aşağıdaki sözcüklerin hangisinin büyük ünlü uyumuna uymama nedeni diğerlerinden farklıdır?

- A) Hikâyecilik B) Orijinal
C) Turizmin D) Karşıdaki

17. Aşağıdaki cümlelerin hangisinde ünsüz benzeşmesine (sertleşmesine) uymamaktan kaynaklanan bir yazım yanlışlığı yapılmıştır?

- A) Kulağıma hafifçe bir müzik sesi çalındı.
B) Bu tür durumlara alışkın bir çocuk değil o.
C) Gittikçe şiddetlenen bir seldi bu.
D) Gençken inşaatlarda işçilik yapmıştım.

18. I. Türkçe kökenli sözcüklerde uzun ünlü bulunmaz.
II. Türkçe kökenli sözcüklerin büyük ve küçük ünlü uyumuna uyma zorunluluğu yoktur.
III. Türkçe kökenli bir sözcükte iki ünlü harf yan yana gelebilir.
IV. Türkçe kökenli sözcükler h, f, l, r sesleri ile başlamaz.

Numaralanmış özelliklerden hangileri Türkçe için doğrudur?

- A) I ve II. B) I ve IV.
C) II ve III. D) III ve IV.

19. Aşağıdakilerin hangisinde büyük harflerin kullanımıyla ilgili bir yazım yanlışlığı yapılmıştır?

- A) Bizim Ahmet iki ay sonra Konya'ya taşınacakmış.
B) Bizim diyemediklerimizi Muhtar Hasan Ağa söyledi.
C) ODTÜ'yü kazandığınızı duydum.
D) 1965 eylülde dünyaya gelmiştim.

20. Aşağıdakilerin hangisinde "de, da"nın yazımı ile ilgili bir yanlışlık yapılmıştır?

- A) Onun Bursalı olduğunu kimsede bilmiyordu.
B) Bizimle gelse de olur gelmese de.
C) Aklında yine neler var senin?
D) Kar da o gece çok şiddetli yağıyordu.

1. OTURUM

(402) DİL VE ANLATIM – 2

1. O zaman başından aşkındı derdi,
Mermeri oyardı, taş^Iı delerdi.
Kaç yanık volcuya soğuk su verdi,
Değdi kaç dudağa çoban çeşmesi.^{II}
^{III}
^{IV}

Bu dizelerde numaralanmış sözcüklerden hangileri hem yapım hem çekim eki almıştır?

- A) I ve II. B) I ve III.
C) II ve IV. D) III ve IV.
2. **Aşağıdakilerin hangisinde yapıca özdeş olan sözcükler bir arada verilmiştir?**
- A) kalemler – gelenek
B) keskin – uyku
C) yüzbaşı – olgun
D) sanat – çekyat
3. **Aşağıdaki cümlelerin hangisinde “donmak” sözcüğü, “beklenmedik bir durum karşısında birden hareketsiz kalmak” anlamında kullanılmıştır?**
- A) Yaşlı adam dışarıda donmak üzereydi.
B) Donmuş beyinler gelişmeye engel olur.
C) Arabayla donmuş bir gölün üzerinden geçmiştik.
D) Karşılarında beni görünce hepsi o anda dondu.
4. **Aşağıdaki cümlelerin hangisinde altı çizili sözcük soyut anlamlıdır?**
- A) O gün hava oldukça kapalı ve iç karartıcıydı.
B) Sokağı mis gibi bir ekmek kokusu sarmıştı.
C) Kendi emelleriniz uğruna başkalarına zarar vermeyin.
D) Bu yaylanın her mevsim ayrı bir güzelliği olur.
5. **Aşağıdaki cümlelerin hangisinde “çarpmak” sözcüğü terim anlamıyla kullanılmıştır?**
- A) Sahneye çıkacağı için kalbim hızlı hızlı çarpıyordu.
B) Otobüste yaşlı bir adamın cüzdanını çarpmışlar.
C) Babası kapıyı hızla çarpıp dışarı çıktı.
D) Üç basamaklı sayıları zihinde çarpmak benim için çocuk oyuncağı.

6. **Aşağıdaki dizelerden hangisinin yüklemi haber kipiyle çekimlenmiştir?**

- A) Takinsam kanat manat
Kuş muş olsam seçirtsem
B) Bir büyük oyun yaşamak dediğin
Beni ya sevmeli ya öldürmeli
C) Sarışın buğdayı rüyalarımızın
Seni bağrımızda eker biçeriz
D) Rüzgârlı havalarda sokağa çık
Ama şaşırtma beni

7. **Aşağıdaki cümlelerin hangisinde öge eksikliğinden kaynaklanan bir anlatım bozukluğu vardır?**

- A) Oğluna her zaman güvenir, her durumda desteklerdi.
B) Valimiz sık sık okulumuza gelir, projelerimize destek verirdi.
C) Şehir planlamacılığı her geçen gün önem kazanıyor.
D) Bir dergide çalışmaya başlamış, öykülerimi ilk defa okur karşısına çıkarmıştım.

8. (I) Çocukların istenmeyen bazı davranışları veya önüne geçilemeyen korkuları olabilir. (II) Bunlar doğal ve aşılabilir durumlardır. (III) Bu tür sorunların üstesinden gelebilmek için farklı yöntemler denemek gerekebilir. (IV) Çocukların ebeveynleri ile iletişimleri, gelişimleri açısından oldukça önemlidir. (V) Bir yöntem işe yaramadığında başka yöntemler aramak ve bulmak zorunda kalınabilir.

Bu parçada numaralanmış cümlelerden hangisi parçanın düşünce akışını bozmaktadır?

- A) II. B) III. C) IV. D) V.

9. Bir ulusun şiiri demek ondaki dehalığın en doğru, en arı görünümü demektir. Milletin dehası her ülke şiirine kendine özgü bir renk, bir koku ve farklı bir seste yansır. Birçok milletin şiirinde alışveriş olsa da bu kendine özgü daima kendini korur. Ortak konular bile o milletin kültür ve edebiyat geleneğine göre şekil alır.

Bu parçada asıl anlatılmak istenen aşağıdakilerden hangisidir?

- A) Farklı şiir anlayışları arasında benzerlikler bulunmaktadır.
B) Şiir ayrı bir dehalik gerektiren bir türdür.
C) Her milletin şiir anlayışında farklılıklar söz konusudur.
D) Şiir, her dönemde kendini yenileyen bir tür olmuştur.

10. Kendimizi başka bir yaşamın içine atmak için tiyatronun rahat koltuklarına gömülüyoruz. Alışılmışın dışına çıkmanın başka yolu yok. Bir iki saat için de olsa kendimizi başkasında yaşama isteği duyuyoruz. Belki de başkasını, kendimizde yaşama isteği vardır bu duyguda. Bu açıdan bir şeylerden kopup bir yerlere sığınmadır tiyatro.

Bu parçanın ana düşüncesi aşağıdakilerden hangisidir?

- A) Tiyatro ile kendi yaşamımızdan uzaklaşıp farklı bir yaşamın içine gireriz.
B) Tiyatro gerçeğe yakınlığı ile diğer edebî türlerden oldukça farklıdır.
C) Tiyatronun, hayatın kendisi olması onu tercih edilir kılmıştır.
D) Tiyatro kişinin kendi hayatını sorgulamasını sağlar.

11. Ne doğan güne hükümüm geçer,
Ne hâlden anlayan bulunur;
Ah aklımdan ölümüm geçer;
Sonra bu kuş, bu bahçe, bu nur.

Bu dizelerde numaralanmış sözcüklerden hangisinin kökü tür bakımından diğerlerinden farklıdır?

- A) I. B) II. C) III. D) IV.

12. **Aşağıdaki sözcüklerden hangisi türemiş yapı değildir?**

- A) Bahçelerde B) Sessizliğin
C) Güçsüzleşmek D) Suskun

13. **Aşağıdaki cümlelerde yer alan altı çizili sözcüklerin hangisinin sesteşi yoktur?**

- A) Dışarıdan bir el silah sesi duyuldu.
B) Kapıda ak saçlı bir ihtiyar belirdi.
C) Sana kaç kere oraya gitme dedim!
D) Çocuklar ağzı birliği etmişlerdi.

14. Eskiden mal mülk anlamında kullanılan tavar (davar) sözcüğü günümüzde sadece koyun, keçi sürüsü anlamında kullanılmaktadır.

Bu durum aşağıdakilerden hangisine örnektir?

- A) Anlam daralmasına
B) Somutlamaya
C) Anlam kötüleşmesine
D) Anlam iyileşmesine

1. OTURUM

15. Samiha Ayverdi, birçok romanında kültürel öğeleri işler.

Bu cümlelerin öge dizilişi aşağıdakilerden hangisidir?

- A) Özne – Nesne – Dolaylı tümleş – Yüklem
B) Özne – Dolaylı tümleş – Nesne – Yüklem
C) Özne – Nesne – Yüklem
D) Özne – Zarf tümleci – Nesne – Yüklem

16. Geleneksel Anadolu mutfağımızın vazgeçilmez gıdalarının başında gelir kuru baklagiller.

Bu cümlelerin özellikleri aşağıdakilerin hangisinde doğru olarak verilmiştir?

- A) Birleşik – isim – kurallı – olumsuz
B) Sıralı – fiil – devrik – olumlu
C) Basit – fiil – kurallı – olumlu
D) Birleşik – fiil – devrik – olumlu

17. Çözülen bir demetten indiler birer birer,
Bırak, yorgun başları bu taşlarda uyusun.
Tutuşmuş ruhlarına bir damla gözyaşı sun,
Bir sebile döküldü bembeyaz güvercinler

Bu dizelerde haber kipiyle çekimlenmiş kaç eylem vardır?

- A) 1 B) 2 C) 3 D) 4

18. Aşağıdakilerin hangisi sözde soru cümlesidir?

- A) Onun ne uyanık olduğunu bilmeyen var mı?
B) Bu tabağı buraya kim koydu?
C) Afyon'da tahminen kaç gün kalırız?
D) TDK'nin ilk başkanı kimmiş?

19. Aşağıdakilerden hangisi bir paragrafın giriş cümlesi olamaz?

- A) Asaf Halet, şiirlerinde Doğu ve Batı mistisizmini kaynaştırmıştır.
B) Bu eserinde de aynı şekilde geleneklere başkaldırını işlediğini görüyoruz.
C) İyi bir edebî eserden tek bir sözcüğün dahi çıkarılması mümkün değildir.
D) Aşk, yüzyıllardır edebî eserlerde yer alan evrensel bir konudur.

20. Birkaç dakikalık hoşbeşten sonra öğretmen, genzini temizledi. Salon sessizleşti, herkes gözlerini saygıyla ona dikti. Öğretmen kendinden emin, tok bir sesle konuşmaya başladı.

Bu paragrafın türü aşağıdakilerden hangisidir?

- A) Fikir B) Açıklama
C) Betimleme D) Olay

(407) DİL VE ANLATIM – 7

1. "Üç birlik" terimi aşağıdaki türlerin hangisine aittir?

- A) Romana B) Fabla
C) Tiyatroya D) Masala

2. Türk edebiyatında ilk yerli roman - - - - tarafından kaleme alınan - - - -.

Bu cümlede boş bırakılan yerlere sırasıyla aşağıdakilerden hangileri getirilmelidir?

- A) Namık Kemal – İntibah'tır
B) Şemsettin Sami – Taaşşuk-ı Talat ve Fitnat'tır
C) Ahmet Mithat Efendi – Felatun Bey'le Rakım Efendi'dir
D) Recaizade Mahmut Ekrem – Araba Sevdası'dır

3. Kuruluşundaki özelliğe göre öteki masal türlerinden ayrılır. Küçük, önemsiz olayların birbiri ardına bağlanmasıyla oluşturulmuştur. Bağlantı ögesinin sayısı ölçüsünde masal uzar gider. (Keloğlan, Sırça Köşk...)

Bu parçada hakkında bilgi verilen masal türü aşağıdakilerin hangisidir?

- A) Hayvan masalları
B) Asıl masallar
C) Zincirlemeli masallar
D) Güldürücü hikâyeler, nükteli fıkralar ve yalanlamalar

4. Aşağıdakilerden hangisi Batı edebiyatında ünlü bir masal yazardır?

- A) Stendhal B) Shakespeare
C) Çehov D) Andersen

5. Akla karşı duyguyu, seçkin sınıfa karşı halkı, süslülüğe karşı doğallığı, kurallara karşı kuralsızlığı işleyen romanlardır. Namık Kemal'in "İntibah" adlı romanı bu roman türüne uygun bir örnektir.

Bu parçada tanıtılan roman türü aşağıdakilerden hangisidir?

- A) Romantik roman
B) Klasik roman
C) Realist roman
D) Natüralist roman

6. Aşağıdakilerden hangisi tarihî romana örnektir?

- A) Eylül
B) Küçük Ağa
C) Robinson Crusoe
D) Sefiller

7. I. Mehmet Rauf'un Eylül adlı romanı edebiyatımızın ilk başarılı psikolojik romanı kabul edilir.

II. Halide Edip, Yakup Kadri, Reşat Nuri Tanzimat Dönemi romancılarındandır.

III. Servetifunun romanları teknik bakımdan Tanzimat romanları kadar başarılı değildir.

IV. Edebiyatımızda romanda 1950'den sonra "köy edebiyatı" denen bir anlayış gelişmiştir.

Numaralanmış cümlelerin hangilerinde roman türüyle ilgili bilgi yanlışlığı yapılmıştır?

- A) I ve II. B) I ve IV.
C) II ve III. D) III ve IV.

8. Beş altı dakikaya sığdırılan tablolar hâlinde sergilenen kısa, müzikli oyunlara - - - - denir.

Bu cümlede boş bırakılan yere aşağıdakilerin hangisi getirilmelidir?

- A) operet B) opera
C) revü D) skeç

9. Sahici mi elinde tuttuğun o kartal kanadı

Sen tuttun acıdan benim ellerim kanadı

Bu dizelerde altı çizili sözcüklerin kullanımıyla oluşan edebî sanat aşağıdakilerden hangisidir?

- A) Kişileştirme
B) Cinas
C) Benzetme
D) Mecazîmürsel

1. OTURUM

10. Aşağıdaki nazım şekillerinden hangisi Batı edebiyatından alınmıştır?

- A) Sone B) Murabba
C) İlahi D) Müstezat

11. Çavuş, bir eliyle bakır tolgasını tutarak koştu. Kuru Kadı uzakta, kara yerin üstünde daha kara bir leke gibi yavaş yavaş ilerleyen düşman alayına dikkatle baktı. Gözlerini küçülttü, büyüttü. Önlerinde birkaç top da sürüklüyorlardı. Binden fazla idiler. Hâlbuki hisardaki gaziler? Kendisiyle beraber yüz on dört kişi...

Bu parçada hikâyeye ait yapı unsurlarından hangisi belirgin değildir?

- A) Olay B) Mekân
C) Kişi D) Zaman

12. Ah bu türküler
Türkülerimiz
Ana südü gibi candan
Ana südü gibi temiz

Bu dizelerde bulunan söz sanatı aşağıdakilerden hangisidir?

- A) Benzetme B) Abartma
C) Kişileştirme D) Tariz

13. Bu gösteride tek oyuncu, anlattığı bir olay ya da hikâyeyi seyirciler önünde hareket ve taklitlerle canlandırır. Bu taklitler ve hareketler sayesinde oyuncunun anlattığı şeyler, bir hikâyeye oluştuktan çıkıp tiyatro oyununu andırır.

Bu parçada kısaca tanımlanan geleneksel tiyatro türü aşağıdakilerden hangisidir?

- A) Karagöz
B) Orta oyunu
C) Meddah
D) Köy seyirlik oyunları

14. Servetifünun Dönemi'nin en başarılı romancısıdır. Ünlü romanı "Aşk-ı Memnu"da varlıklı bir ailedeki Batılı yaşam biçimini anlatır. "Mai ve Siyah" adlı romanında ise o dönemin yaşamına ışık tutmuştur.

Bu parçada hakkında kısaca bilgi verilen sanatçı aşağıdakilerden hangisidir?

- A) Halit Ziya Uşaklıgil
B) Mehmet Rauf
C) Hüseyin Cahit Yalçın
D) Yakup Kadri Karaosmanoğlu

15. Aşağıdakilerden hangisi sanatsal bir metinden alınmıştır?

- A) Dünya nüfusunun önemli bir bölümü diz kıkırdağı sorunu yaşıyor. Ülkemizde de diz kıkırdağı problemi olan milyonlarca insan var.
B) Şimdiye kadar karbondioksit miktarı arttıkça bitkilerin fotosentezle daha çok karbondioksit kullandığı ve bu karbonun bitkinin yapısında ve toprakta uzun süre tutulduğu, böylece iklim değişme hızının düştüğü düşünülüyordu.
C) Farklı yaşam koşullarına uyum gösterebilmeleri sayesinde kutuplarda ya da çölde, denizlerin dibinde ya da çok yükseklerde yaşayan hayvanlara rastlamak mümkün.
D) Yine olmadı, diye söylendi kendi kendine. Masadaki kâğıdı buruşturup attı. Kaç zamandır dedesinin yaptığı yolculukla ilgili bir yazı yazmayı düşünüyor ancak nasıl yazacağına bir türlü karar veremiyordu.

16. Batılı anlamda ilk öykü örneği - - - - tarafından yazılan - - - -.

Bu cümlede boş bırakılan yerlere sırasıyla aşağıdakilerden hangileri getirilmelidir?

- A) Ahmet Mithat Efendi – Kısadan Hisse'dir
B) Recaizade Mahmut Ekrem – Muhsin Bey'dir
C) Samipaşazade Sezai – Küçük Şeyler'dir
D) Halit Ziya Uşaklıgil – Solgun Demet'tir

17. • Gülünç olaylarla acıklı olayları iç içe anlatan bir tiyatro türüdür.
• Nazım veya nesir şeklinde yazılabilir.
• Amacı seyirciyi gerçeği göstermektir.

Bu özellikler aşağıdaki tiyatro türlerinden hangisine aittir?

- A) Drama B) Komedyaya
C) Tragedyaya D) Karagöz'e

18. Aşağıdakilerden hangisi gözlemci anlatıcının bakış açısıyla ilgili söylenemez?

- A) Anlatıcı olayları dışarıdan gözlemleyen bir şahit konumundadır.
B) Olaylar kamera tarafsızlığıyla anlatılır.
C) Kişilerin duygu ve düşünceleri eylemlerinden çıkartılır.
D) Birinci tekil şahıs anlatımı kullanılır.

19. • 17. yüzyılda Fransa'da ortaya çıkan klasik romanda Antik Yunan ve Roma sanatının izleri görülür.
• Natüralist romanda olaylar ve kişiler bir bilim adamı gözüyle incelenir.
• Romantik romanda olaylar ve insanlar gerçekçi bir bakış açısıyla yansıtılır.

Bu cümleler doğru-yanlış açısından değerlendirildiğinde sıralama aşağıdakilerden hangisi olur?

- A) Y – Y – D B) D – D – Y
C) D – Y – D D) Y – D – D

20. Aşağıdakilerden hangisi halk hikâyelerinin özelliklerinden biri değildir?

- A) Olaylar nesirle, duygular nazımla ifade edilir.
B) Anlatımda ilahi bakış açısı kullanılır.
C) Oldukça işlenmiş, süslü ve sanatsal bir dile yer verilir.
D) Kahramanlar gerçeğe yakındır, olağanüstü'lüklere fazla yer verilmez.

(408) DİL VE ANLATIM – 8

1. Makalede temel öge - - - -.

Bu cümlede boş bırakılan yere aşağıdakilerden hangisi getirilmelidir?

- A) estetikdir B) düşüncedir
C) sanattır D) hayaldir

2. Münazaranın başarıya ulaşması için tartışmacının aşağıdakilerden hangisini yapması doğru **olmaz**?

- A) Süslü söyleyişlere değil, sağlam fikirlere önem vermelidir.
B) Tartışma konusu dışına çıkmamalıdır.
C) Düşüncelerini açık ve anlaşılır bir şekilde söylemelidir.
D) Münazarayı kişisel üstünlük meselesi olarak düşünmelidir.

3. • Konu hakkında aynı oturumda çeşitli kişilerin yaptıkları konuşmalarıdır.

• Özel olarak belirlenen davetliler, dinleyici olarak bulunur.

• Alınan kararlar bilimsel değer taşır.

Bu özellikler aşağıdaki tartışma türlerinden hangisine aittir?

- A) Sempozyuma B) Konferansa
C) Forumla D) Münazaraya

1. OTURUM

4. Dil ve anlatım dersinde Aysun Öğretmen, öğrencilerin iki gruba ayrılarak düşüncelerini jüri önünde savunmalarını istemiştir. Tartışmanın sonunda kazanan tarafın jüri tarafından ilan edileceğini belirtmiştir.

Aysun Öğretmen öğrencilerden fikirlerini hangi tartışma türüyle açıklamalarını istemiştir?

- A) Forum B) Konferans
C) Münazara D) Sempozyum

5. Aşağıdakilerden hangisi Cumhuriyet'in ilk yıllarında yazdığı makalelerle dikkat çeken yazarlardan biridir?

- A) Tevfik Fikret
B) Namık Kemal
C) Falih Rıfki Atay
D) Recaizade Mahmut Ekrem

6. Aşağıdakilerden hangisi sempozyum başkanının görevlerinden değildir?

- A) Oturumun başarı ve etkinliğinden sorumludur.
B) Konuşmacıların salonda hazır bulunmalarını sağlar.
C) Tartışmayı kazanan tarafı konuşmaların sonunda ilan eder.
D) Konuşmaların başında konuyla ilgili kısa bir giriş yapar.

7. I. Konuşmacılara sorulacak sorular
II. Açık oturumun yapılış nedeni
III. Açık oturumu sonuca bağlamak
IV. Açık oturumun konusu ile ilgili olayın ya da gelişmelerin anlatımı
V. Konuşmaları özetlemek

Numaralanmış cümlelerle açık oturum planı oluşturulursa doğru sıralama aşağıdakilerin hangisi olur?

- A) II – V – III – IV – I
B) II – IV – I – V – III
C) III – V – II – IV – I
D) IV – II – I – III – V

8. I. Tespit edilen kaynaklar önem sırasına göre dizilir ve incelenir.
II. Konu ile ilgili kaynaklar tespit edilir.
III. Kaynaklar incelenip fişlendikten sonra mantık sırasına göre sıralanır.

Numaralanmış cümlelerle bilimsel yazıların ön hazırlık çalışması oluşturulursa doğru sıralama aşağıdakilerin hangisi olur?

- A) I – III – II. B) II – I – III.
C) II – III – I. D) III – I – II.

9. Aşağıdakilerden hangisi bilimsel yazı olarak değerlendirilemez?

- A) Hikâye metinleri
B) Makaleler
C) Konferans raporları
D) Tarama değerlendirme yazıları

10. Makalenin ortaya çıkışında aşağıdakilerin hangisi etkili olmuştur?

- A) İnternet
B) Radyo
C) Televizyon
D) Gazete ve dergiler

11. Aşağıdakilerden hangisi münazara başkanının görevlerinden biri değildir?

- A) Tartışmacıların konu dışına çıkmasını engellemek
B) Tartışma sırasında gerilen tarafları sakinleştirmek
C) Tartışmanın sınırlarını dinleyicilere açıklamak
D) Tartışmada tarafını belli etmek

12. Sempozyum bildiriyle ilgili aşağıdakilerin hangisinde bilgi yanlıştır?

- A) Sunulabilecek yansı sayısı 5-6 civarında olmalıdır.
B) Hazırlanacak bildiri on sayfadan az olmamalıdır.
C) Cümleler kolay anlaşılır şekilde düzenlenmelidir.
D) Yayımlanmaya uygun bir biçimde hazırlanmalıdır.

13. Aşağıdakilerin hangisinde grup tartışması yoktur?

- A) Konferans
B) Açık oturum
C) Münazara
D) Forum

14. Ülkemizde ilk özel gazeteyi kuran İbrahim Şinasi ve Ağâh Efendi'nin çıkardıkları - - - - makale türünde yazılara yer verilmiştir.

Bu cümlede boş bırakılan yere aşağıdakilerin hangisi getirilmelidir?

- A) Tasvir-i Efkâr'da
B) Takvim-i Vakayi'de
C) Ceride-yi Havadis'te
D) Tercüman-ı Ahval'de

15. Yazıda geçen herhangi bir söz ya da sözcükle ilgili olarak sayfa altına konan, aydınlatıcı veya kaynak belirten açıklamaya - - - - denir.

Bu cümlede boş bırakılan yere aşağıdakilerin hangisi getirilmelidir?

- A) kaynakça B) dipnot
C) indeks D) bibliyografya

16. Yeni bulduğu bir elementle ilgili bilim dünyasını bilgilendirmek isteyen bir kimya profesörünün aşağıdakilerden hangisini tercih etmesi beklenir?

- A) Konferans B) Açık oturum
C) Münazara D) Sempozyum

17. - - - - , alanında uzman bir kişinin herhangi bir konu ya da olay hakkında görüş ve düşüncelerini açıklamak amacıyla topluluk önünde yaptığı konuşmalardan oluşan sözlü anlatım türüdür.

Bu cümlede boş bırakılan yere aşağıdakilerin hangisi getirilmelidir?

- A) Sempozyum B) Münazara
C) Konferans D) Forum

18. • Forumda dinleyiciler tartışmaya aktif olarak katılamazlar.
• Konferansta dil ağırlıklı olarak satsal işleviyle kullanılır.
• Sempozyumlarda, sempozyum düzenleme kurulu bulunur.

Bu cümleler doğru - yanlış bakımından değerlendirildiğinde sıralama aşağıdakilerin hangisi olur?

- A) Y – Y – D B) Y – D – D
C) D – Y – D D) D – D – Y

19. Bilimsel metinlerin - - - - bölümünde araştırma sonucu elde edilen bulgular açık ve anlaşılır bir şekilde ortaya konur, tartışılıp genelleştirilir, başka çalışmalarla ilişkilendirilir.

Bu cümlede boş bırakılan yere aşağıdakilerin hangisi getirilmelidir?

- A) başlık
B) giriş
C) asıl metin
D) tartışma ve sonuç

1. OTURUM

20. Aşağıdakilerden hangisi münazara tartışmaya elverişli bir konu değildir?

- A) Çocuğun gelişiminde televizyon yer almalı mıdır?
- B) İlkokullarda el yazısı öğretilmeli midir?
- C) Osmanlı Devleti'nde nasıl bir esnaf teşkilatlanması vardı?
- D) Eğitim yoluyla savaşlar önenebilir mi?

(414) TÜRK EDEBİYATI – 4

1. Aşağıdaki bilgilerden hangisi yanlıştır?

- A) Türkler İslamiyet'i kabul etmeden önce Budizm, Maniheizm gibi dinlere inanıyordu.
- B) Muhakemetü'l Lügateyn, Mecalisü'n Nefais İslami Dönem'e ait ilk eserlerdir.
- C) Gök tanrı inancındaki ahlak ve erdem gibi anlayışlar Türklerin İslamiyet'i kabul etmesinde etkili olmuştur.
- D) İslamiyet'i topluluk hâlinde kabul eden ilk Türk devleti Karahanlılardır.

2. Aşağıdakilerden hangisi bir gazelin matla beytidir?

- A) Değilken birine lâyık çü benden Bana bu lutf ile ihsan nedendir
- B) Kılma insana hakâretle nazar Anla sırr-ı nüsha-i kübrâya bak
- C) Cihanı hiçe satmaktır adı aşk Döküp varlığı gitmektir adı aşk
- D) Gördün mü bağda salınan âfeti gönül Serv-i hırâm derler ana âd u san ile

3. Kasidede doğa güzelliklerinin dile getirildiği bölüme ---- denir.

Bu cümlede boş bırakılan yere aşağıdakilerden hangisi getirilmelidir?

- A) girizgâh
- B) fahriye
- C) medhiye
- D) nesib

4. Kimdir ki gamında nâle vü zar etmez Derdin sana nâle ile izhar etmez Feryâdına hiç kimsenin yetmezsin Feryâd ki feryâd sana kâr etmez

Bu dörtlüğün nazım biçimi aşağıdakilerden hangisidir?

- A) Gazel
- B) Koşma
- C) Rubai
- D) Mesnevi

5. "Danışmendname" ile ilgili aşağıda verilen bilgilerden hangisi yanlıştır?

- A) 13. yüzyılda yazıya geçirilmiştir.
- B) Aruz ölçüsüyle yazılmıştır.
- C) Osmanlı tarihçileri için kaynak niteliğindedir.
- D) Danışmend Gazi'nin Orta Doğu seferini ve savaşlarını konu alır.

6. Aşağıdakilerin hangisinde farklı bir durak kullanılmıştır?

- A) Kurtulamam üç nesnenin elinden
Biri firkat biri gurbet biri aşk
Üçü bilmez birbirinin dilinden
Biri firkat biri gurbet biri aşk
- B) O nazlı canana uğrasa yollar
Bize mesken oldu kahveler hanlar
Yârin meclisinde oturan canlar
Hesap etsin yıllar beş midir nedir
- C) Sedası bülbüldür kendisi civan
Pek tatlıdır dili kaşları keman
Şu benim aklımı başımdan alan
Tuti kumru gibi diller değil mi
- D) Uluslar anlaşsın savaş olmasın
İnsanlar yürektek yara almasın
Sözlükte savaştan eser kalmasın
Türküler söylensin barıştan yana

7. Aşağıdakilerden hangisi orta oyununun özelliklerinden değildir?

- A) Serim, düğüm, çözüm bölümlerinden oluşur.
- B) Orta oyununda kapı, dükkân, paravana ve meydan bulunur.
- C) Başkarakterleri Pişekâr ve Kavuklu'dur.
- D) Yazılı bir metin yoktur, doğaçlama oynanır.

8. Manas Destanı ---- geleneklerini, ahlak ve aile hayatlarını, dünya ve ahiret görüşlerini anlatması açısından önem taşımaktadır.

Bu cümlede boş bırakılan yere aşağıdakilerden hangisi getirilmelidir?

- A) Kazakların
- B) Türkmenlerin
- C) Kırgızların
- D) Azerilerin

9. Bir gün Nasrettin Hoca, eşeğine binmiş kasabaya pazara giderken çocukları yolunu kesmiş. Heyecanla hepsi de pazardan düdük istemişler. Ama içlerinden yalnızca biri para vermiş. Dönüşte Hoca'yla eşeğini karşıdan gören çocuklar koşup çevresini sarmış. "Hoca, düdüklere getirdin mi?" diye bağıriyorlarmış. Hoca, cebinden bir düdük çıkarıp parayı veren çocuğa uzatmış. Diğer çocuklar "Eee, hani bizim düdüklümüz?" diye söylenmeye başlamışlar. Bunun üzerine Hoca "Kusura bakmayın çocuklar." demiş. "Parayı veren, düdüğü çalar!"

Bu parçadan Nasrettin Hoca fıkralarıyla ilgili aşağıdakilerden hangisine ulaşılamaz?

- A) Topluma ve insana ait durumlar bir nükteyle anlatılır.
- B) Nasrettin Hoca'nın eşeği de olayların akışında etkilidir.
- C) Hoca'nın bazı sözleri deyim, atasözünü niteliği kazanmıştır.
- D) Genellikle bir ders çıkarılır.

10. Aşağıdaki eser - yazar eşleştirmelerinden hangisi yanlıştır?

- A) Harname – Süleyman Çelebi
- B) Hüsn ü Aşk – Şeyh Galip
- C) Leyla ve Mecnun – Fuzuli
- D) Garibname – Aşık Paşa

11. Türk tasavvuf edebiyatının kucusu aşağıdakilerden hangisidir?

- A) Hacı Bektaşî Veli
- B) Hoca Dehhani
- C) Yunus Emre
- D) Hoca Ahmet Yesevi

12. Karahanlılar Dönemi'nde bilim dili olarak ----, edebiyat dili olarak ---- kullanılmaya başlanmıştır.

Bu cümlede boş bırakılan yerlere sırasıyla aşağıdakilerden hangisi getirilmelidir?

- A) Türkçe – Arapça
- B) Arapça – Farsça
- C) Farsça – Arapça
- D) Arapça – Türkçe

13. Kutadgu Bilig ile ilgili aşağıdakilerden hangisi söylenemez?

- A) Edebiyatımızdaki ilk mesnevidir.
- B) Edebiyatımızda aruzla yazılan ilk eserdir.
- C) Edebiyatımızdaki ilk siyasetnamedir.
- D) İlk Türkçe sözlüktür.

1. OTURUM

14. Türkçenin ilk dil bilgisi kitabıdır. İçinde yazıldığı döneme ait çok sayıda Türkçe sözcük ile Türk halk edebiyatından alınmış çok sayıda şiir örnekleri bulunmaktadır.

Bu parçada tanıtılan eser aşağıdakilerden hangisidir?

- A) Divan-ı Hikmet
B) Kutadgu Bilig
C) Divanü Lûgati't Türk
D) Atabetü'l Hakayık

15. Karamanoğlu Mehmet Bey'in 1277 yılında "Bugünden sonra divanda, dergâhta, bargâhta, mecliste, meydanda Türkçeden başka dil kullanılmayacaktır." şeklinde bir ferman çıkartmasının amacı aşağıdakilerden hangisidir?

- A) Türkçeyi diğer dillerin etkisinden kurtarmak
B) Türkçenin zengin bir dil olduğunu ortaya koymak
C) Türk dili ile ilgili çalışmalara önem vermek
D) Yazı dilinin gelişimine katkı sağlamak

16. Aşağıdakilerden hangisi 14. yüzyıl şairlerinden olan Ahmedî için söylenemez?

- A) Gazel, kaside, mesnevi türünde eserler vermiştir.
B) Tasavvuf konularını ele almıştır.
C) Ağır ve süslü bir dil kullanmıştır.
D) Divan edebiyatındaki mazmunların yerleşmesinde etkili olmuştur.

17. İstanbul kuşatmasına katılan Emevi komutan Abdullah bin Amr'ın tarihsel gerçeklerden uzaklaşmış ve halkın hayal gücüyle zenginleştirilmiş kahramanlıklarını anlatan 7000 beyitlik bir destandır. Eser Türklerin Anadolu'daki yiğitliklerini, İslamiyet uğruna Bizanslılarla yaptıkları savaşları anlatır.

Bu parçada sözü edilen eser aşağıdakilerden hangisidir?

- A) Ferhat ile Şirin
B) Dede Korkut Hikâyeleri
C) İskendername
D) Battalname

18. I. Eserdeki metinler hikâye-destan özellikleri gösterir.
II. Ağır ve sanatlı bir dil kullanılmıştır.
III. Aruz ölçüsüyle yazılmış uzun, manzum bir eserdir.
IV. Müslüman Oğuzların iç ve dış mücadeleleri anlatılmıştır.

Numaralanmış özelliklerden hangileri Dede Korkut Hikâyeleri için söylenebilir?

- A) I ve II. B) I ve IV.
C) II ve III. D) III ve IV.

19. Birçok dile çevrilen "Mesnevi" adlı eserinde ayetler, hadisler, şiirler, kısa öyküler ile Allah'a ulaşmanın yollarını anlatır. Ona göre insan Allah'a, kendini derin bir aşka bırakarak ulaşabilir. Bütün insanlığı kucaklayan mutasavvıf, birliği, iyiliği ve hoşgörüyü öğütler.

Bu parçada sözü edilen mutasavvıf aşağıdakilerden hangisidir?

- A) Mevlâna Celaleddin-i Rumi
B) Şeyh Galip
C) Hacı Bayram-ı Veli
D) Süleyman Çelebi

20. Baki, Kanuni Sultan Süleyman'ın ölümünden duyduğu üzüntüyü bir kasideyle dile getirmiştir.

Bu kasidenin konusuna göre türü aşağıdakilerden hangisidir?

- A) Methiye B) Münacaat
C) Mersiye D) Hicviye

(417) TÜRK EDEBİYATI – 7

1. Aşağıdaki sanatçılardan hangisi Beş Hececiler'den biridir?

- A) Melih Cevdet Anday
B) Sabri Esat Siyavuşgil
C) Kenan Hulusi Koray
D) Yusuf Ziya Ortaç

2. "Anadolucu" ya da "memleketçi" edebiyat 1930'lara değin egemenliğini sürdürdü. Bu şiire ilk tepki, çıkardıkları ortak kitabın adından ötürü edebiyat tarihine - - - - adıyla geçen topluluktan geldi.

Bu parçada boş bırakılan yere aşağıdakilerin hangisi getirilmelidir?

- A) Yedi Meşaleciler
B) Garipçiler
C) II. Yeniciler
D) Maviciler

3. • Cumhuriyet sonrası Türk şiirinde gerçek yeniliği başlatan kişi oldu.
• Şiirden ölçü, uyak gibi bağları atan bir akımın başlatıcısı kabul edildi.

Bu özellikler aşağıdaki sanatçılardan hangisine aittir?

- A) Faruk Nafiz Çamlıbel'e
B) Necip Fazıl Kısakürek'e
C) Nazım Hikmet Ran'a
D) Cahit Sıtkı Tarancı'ya

4. Aşağıdakilerin hangisinde bilgi yanlışı vardır?

- A) Asaf Halet Çelebi sade ve açık şiir-
re karşı şiirlerinde Doğu mistisizmi
ile tasavvufu birleştirmiştir.
B) Cahit Külebi, çok derinden sevgi
duyduğu Anadolu'yu, aşk, hasret
ve üzüntülerini anlatan lirik şiirler
yazdı.
C) Oktay Rifat şiirlerinde toplumsal
sorunları tüm boyutlarıyla irdele-
miş, ahenk öğelerine sıkı sıkıya
bağlı kalmıştır.
D) İçe dönük bir kişiliğe sahip olan
Behçet Necatigil büyük şehirde
kaybolmuş insanın karmaşık ruh
dünyasını şiirlerine yansıtmıştır.

5. I. Ataol Behramoğlu, İsmet Özel,
Refik Durbaş, Süreyya Berfe en
önemli temsilcileridir.
II. Şiirde toplumsal mesaj verme
kaygısı vardır.
III. Anlamda kapalılığı önemsemiş-
lerdir.
IV. İmgenin yoğun olarak kullanıldığı
bir şiir evreni oluşturmuşlardır.

Numaralanmış özelliklerden hangileri II. Yeni için söylenemez?

- A) I ve II. B) I ve III.
C) II ve III. D) II ve IV.

6. Aşağıdakilerden hangisi Cumhuriyet Dönemi şairlerinden biri değildir?

- A) Fazıl Hüsnü Dağlarca
B) Muallim Naci
C) Turgut Uyar
D) Necati Cumalı

7. Aşağıdaki eserlerden hangisi farklı bir sanatçıya aittir?

- A) Aynaroz Kadısı
B) İstanbul Efendisi
C) Balıkesir Muhasebecisi
D) Bir Kavuk Devrildi

1. OTURUM

8. 20. yüzyılın son yirmi yılında yazdığı yirmiden fazla oyunla kişilere yeni bakış açıları kazandırmaya, vicdanları doğrulara açmaya çalışmıştır. Oyunlarının renkli dünyasında sanatçılar, aydın geçinenler, bilim adamları, garsonlar, gezginler, astronotlar, satıcılar yer alır. Başlıca oyunları: Cumhuriyet Kızı, Yangın Yerinde Orkideler, Maskeli Süvari, Çin Kelebeği...

Bu parçada hakkında bilgi verilen sanatçı aşağıdakilerden hangisidir?

- A) Aziz Nesin
B) Turan Ofazoğlu
C) Murathan Mungan
D) Memet Baydur

9. Aşağıdakilerden hangisi gezi yazısı alanında eser veren sanatçılarından biri değildir?

- A) Yahya Kemal Beyatlı
B) Kâtip Çelebi
C) Evliya Çelebi
D) Seydi Ali Reis

10. • Muharrir, Şair, Edip
• Kırk Yıl
• Saray ve Ötesi

Bu eserlerin türü aşağıdakilerden hangisidir?

- A) Gezi yazısı B) Makale
C) Fıkra D) Anı

11. Fıkra yazarının kısa, özlü ve etkili yazabilmek için aşağıdakilerden hangisine sahip olması beklenmez?

- A) Geniş bir genel kültüre
B) Değişmeyen, sabit fikirlere
C) Kavrama gücüne
D) Anlatma yeteneğine

12. Eski Yunan edebiyatında Ksenophon'un Anabasis adlı eseri - - - - türünün ilk örneklerinden sayılır.

Bu cümlede boş bırakılan yere aşağıdakilerden hangisi getirilmelidir?

- A) günlük B) fıkra
C) makale D) anı

13. Bu seyahat, artık yolculuktan usanmış bir zamana rastlamış olmakla beraber beni atıklarınca binmiş bir bayram çocuğu gibi eğlendiriyordu. Otoray, son derce munis bir dekor arasında akıp giderken kâh makinistin omuz başından önümüzdeki yola kâh arkaya geçerek akşam ışıklarıyla sararıp kızaran ovalara bakıyordum.

Bu metin aşağıdaki türlerin hangisinden alınmıştır?

- A) Anıdan
B) Günlükten
C) Gezi yazısından
D) Makaleden

14. Deneme türü Türk edebiyatına - - - - sonra girmiştir.

Bu cümlede boş bırakılan yere aşağıdakilerden hangisi getirilmelidir?

- A) Tanzimat'tan
B) Cumhuriyet'ten
C) II. Meşrutiyet'ten
D) Millî Mücadele'den

15. II. Yeni akımı aşağıdaki toplulukların hangisine tepki olarak ortaya çıkmıştır?

- A) Mavicilere
B) Beş Hececilere
C) Yedi Meşalecilere
D) Garipçilere

16. Aşağıdakilerin hangisi Cumhuriyet Dönemi'nin tiyatrocularından biridir?

- A) Cahit Külebi
B) Turan Ofazoğlu
C) Ömer Seyfettin
D) Sait Faik Abasıyanık

17. - - - -; Mahmud ile Yezida, Taziye, Geyikler Lanetler'den oluşan üçlemde seyircinin düş gücünü zorlamış, onu Güneydoğu Anadolu söylencelerinin gizemli karanlığına çıkılan yolculukta varlığın ezeli boyutuyla karşı karşıya getirivermiştir.

Bu cümlede boş bırakılan yere aşağıdakilerden hangisi getirilmelidir?

- A) Refik Erduran
B) Orhan Asena
C) Memet Baydur
D) Murathan Mungan

18. Aşağıdakilerden hangisi Garip topluluğunun şiir anlayışına uyumaz?

- A) Ölçü ve uyak gibi ahenk öğelerinden uzak durmak
B) Süslü ve sanatlı bir söyleyişi önemsemek
C) Sıradan insanları şiire konu edinmek
D) Yaşama sevinci ve günlük yaşamı işlemek

19. Cumhuriyet'in ilk yıllarında İstanbul Şehir Tiyatrosunu ve Devlet Tiyatrosunu yönetip modern Türk tiyatrosunun kurulmasında önemli bir görev üstlenen sanatçı aşağıdakilerden hangisidir?

- A) Refik Erduran
B) Muhsin Ertuğrul
C) Sabahattin Kudret Aksal
D) Haldun Taner

20. • Deneme türünün öncüsü ve kurucusu Fransız yazar Montaigne'dir.
• Deneme türünde ispatlama kaygısı vardır.
• Edebiyatımızda deneme türünün öncüsü Nurullah Ataç'tır.

Bu cümleler doğru-yanlış bakımından değerlendirildiğinde uygun sıralama aşağıdakilerden hangisi olur?

- A) Y – D – D B) D – D – Y
C) D – Y – D D) Y – Y – D

(418) TÜRK EDEBİYATI – 8

1. Nazım Hikmet ve Ercüment Behzat Lav'ın yazdıkları şiirler önceki dönemlerin edebî geleneklerinden bir kopuştur. Bu kopuşun temelinde aruz ve heceyi reddeden yeni bir anlayış, yeni bir biçim ve söyleyiş vardır.

Bu parçada hakkında bilgi verilen edebî anlayış aşağıdakilerden hangisidir?

- A) Millî Edebiyat zevk ve anlayışını sürdüren şiir
B) Öz şiir anlayışını sürdüren şiir
C) İkinci Yeni şiiri
D) Serbest nazım ve toplumcu şiir

1. OTURUM

2. Aşağıdakilerin hangisinde Necip Fazıl Kısakürek ile ilgili yanlış bir bilgi vardır?

- A) Şiirlerinde madde ve ruh problemlerini, iç âlemin tutku ve duygularını işlemiştir.
- B) Ağır bir dil ve savruk bir üslup, şiirlerinin en zayıf noktasıdır.
- C) Halk şiirinin incelikleriyle Fransız şiirinin olgunluğunu birleştirmiştir.
- D) İçeride dönük, bireyci, maneviyatçı şiirin başarılı örneklerini vermiştir.

3. Aşağıdakilerden hangisi "1940 Toplumcu Gerçekçi Kuşağı" şairlerinden biri değildir?

- A) Bedri Rahmi Eyüpoğlu
- B) Rıfat Ilgaz
- C) Enver Gökçe
- D) Cahit Irgat

4. Hayata dair her şey olmalı şiirde. Sizin sıradan gördüğünüz şeyler bile yer almalı benim dizelerimde. Şaşırması okuyucu şiirimi okuduğunda. Yaşama sevinciyle dolmalı aynı zamanda. Çünkü umut olmadan yaşam olmaz.

Şiirinin özelliklerini böyle dile getiren bir şairin aşağıdaki şiir anlayışlarından hangisine bağlı olduğu söylenir?

- A) Millî Edebiyat zevk ve anlayışını dile getiren şiire
- B) II. Yeni şiirine
- C) Garip şiirine
- D) 1980 sonrası şiire

5. Aşağıdakilerden hangisi II. Yeni şiirin temsilcilerinden biridir?

- A) Hüseyin Atlansoy
- B) İlhan Berk
- C) Ömer Bedrettin Uşaklı
- D) Yusuf Ziya Ortaç

6. Aşağıdakilerin hangisi toplumcu şairlerin özelliklerinden biri değildir?

- A) Kendilerini toplumun sesi, sözcüsü olarak görmüşlerdir.
- B) Şiirde geleneksel söyleyişten yararlanmaya çalışmışlardır.
- C) Şiir dilinde aşırılıklardan kaçmışlardır.
- D) Kapalı ve imgelerle yüklü bir anlatım benimsemişlerdir.

7. 1980 sonrası şiirle ilgili aşağıdakilerin hangisinde bilgi yanlış vardır?

- A) Bu dönem şiirinde kırsal kesimde yaşayan insanların derinlemesine incelendiği görülür.
- B) Türk şiir birikimini yeniden ve bir bütün olarak değerlendirme çabaları vardır.
- C) Şiirde yapı ve söyleyişe içerikten daha fazla önem verilmiştir.
- D) Uzak çağrışımlara önem verilmiş, şiir düzyazıya yaklaştırılmıştır.

8. Aşağıdakilerden hangisi Cumhuriyet Dönemi halk şairlerinden biri değildir?

- A) Âşık Veysel
- B) Murat Çobanoğlu
- C) Karacaoğlan
- D) Şeref Taşlıova

9. ...

Ben mi? Ben Ç. köyünden olurum, Çukurova'ya sıftah için indik. Esasta üç arkadaşlık biz. Köse Hasan öldü fukara, sen sağ ol. Pehlivan Ali de çekti gitti, kaldım ben. Ben de açtım gözümü. Usta oldum. Niye? Şöyle bir vurduğum zihnime; Yusuf dedim, köyden şehre ne demeye indin? İş güc sahibi olup iyi kötü üçün beşin yoluna bakmak için. Köye varınca köylüyü kendine güldürme. Yemin ettim, duvar ustalığını belledim.

Bir romandan alınan bu parçanın üslup ve içerik bakımından özellikleri dikkate alındığında aşağıdaki roman geleneklerinden hangisiyle yazıldığı söylenir?

- A) Toplumcu gerçekçi
- B) Millî Edebiyat zevk ve anlayışını sürdüren
- C) Bireyin iç dünyasını ele alan
- D) Modernizmi esas alan

10. Aşağıdakilerden hangisi günümüz roman ve hikâyecilerinden biridir?

- A) Halide Edip Adıvar
- B) Yakup Kadri Karaosmanoğlu
- C) Murathan Mungan
- D) Refik Halit Karay

11. Şiirde bazı sözcüklerin, diğerlerine oranla daha baskın okunmasına - - - - denir.

Bu cümlede boş bırakılan yere aşağıdakilerden hangisi getirilmelidir?

- A) ölçü
- B) uyak
- C) vurgu
- D) yapı

12. Bütün ayrılıklardan ayrı Korkulardan azade Meleklerle el ele Yağmur yağarcasına gel Saçlarını çözercesine gel

Bu dizelere hâkim olan duygu aşağıdakilerden hangisidir?

- A) Pişmanlık
- B) Yalnızlık
- C) Korku
- D) Özlem

13. Aşağıdaki dizelerin hangisi farklı bir geleneğe bağlı olarak oluşturulmuştur?

- A) Güney yıldızlarının gölgesi Mermer duvaklı göğün atlasında Bir şahmeran masalı dinler gibi Kendi efsanesine dönük kasaba
- B) Ben nasıl şairim ayıp Kırk yıldır geçmemişim buradan Kim bilir kimler geldi, kimler kayıp Öğrensem anlamı yok sonradan
- C) Esrârını dil zaman zaman söyler imiş Hengâme-i gamda dâstan söyler imiş Aşk ehli olup da mihnet-i hicrâne Ben sabr iderin diyen yalan söyler imiş
- D) Ben başkasının sokağı olsaydım Eski bir şehre giderdim önce Evlerin çocuklarla bir büyüdüğü O sokakta kendime kardeş arardım

14. Toplum hayatını anlatmak, mahallî bir edebiyat yapmak sanatının en önemli özelliğidir. Kuvvetli gözlemleriyle hayat sahnelerini, olayları, konuşmaları bütün özellikleri ve canlılıkları ile eserlerine yansıttı. Şiirlerinde İslami duyarlılığı ile millî kaygılarını birleştirdi.

Bu parçada hakkında bilgi verilen sanatçı aşağıdakilerden hangisidir?

- A) Faruk Nafiz Çamlıbel
- B) Mehmet Âkif Ersoy
- C) Ahmet Muhip Dırnasas
- D) Orhan Veli Kanık

15. • Çoban Çeşmesi • Bingöl Çobanları • Olvido

Yukarıda eseri verilmeyen sanatçı aşağıdakilerden hangisidir?

- A) Kemalettin Kamu
- B) Ahmet Muhip Dırnasas
- C) Faruk Nafiz Çamlıbel
- D) Cemal Süreya

1. OTURUM

(421) FİZİK – 1

16. Şiirlerinde aşk ve hüznün duygularını öne çıkaran şairlerdendir. Hece şiirlerinin duyarlılığını sürdürürken yeni şiirin biçim olanaklarını da kullandı. Şiirlerinde yalın bir dil ve kendine özgü bir söyleşiye ulaştı. "Yeşil Çağ" şiir kitapları arasındadır.

Bu parçada hakkında bilgi verilen sanatçı aşağıdakilerden hangisidir?

- A) Yahya Kemal Beyatlı
B) Ahmet Hamdi Tanpınar
C) İlhan Geçer
D) Edip Cansever

17. O yârin açılmış gülü goncedir
Boyu fidan beli gayet incedir
Mutabık fakirce hemen bencedir
İpek poşulumun güneş başlımın

Bu dizelerin konusuna göre türü aşağıdakilerden hangisidir?

- A) Güzelleme B) Koçaklama
C) Taşlama D) Ağıt

18. Aşağıdaki türlerden hangisi anlatmaya bağlı edebî metinlerden değildir?

- A) Roman B) Hikâye
C) Masal D) Tiyatro

19. Anadolu lu şiir anlayışına ilk tepki aşağıdaki grupların hangisinden gelmiştir?

- A) II. Yeni
B) Yedi Meşaleciler
C) Beş Hececiler
D) Garipçiler

20. Aşağıdakilerden hangisi Cumhuriyet Dönemi roman ve hikâyesi için söylenemez?

- A) Teknik yönden başarısız eserler verilmiştir.
B) Sade ve anlaşılır bir dil kullanılmıştır.
C) Gerçekçiliğe önem verilmiştir.
D) Konu sınırlandırılması ortadan kalkmıştır.

1. Fiziksel olay örnekleri aşağıda verilmiştir.
- Sıvıların içindeki katılara kaldırma kuvveti uygulaması
 - Tüm engellerin giderildiği ortamlarda hareket halindeki cisimlerin hareketlerini sonsuza dek sürdürmeleri
 - Yerkürenin dev bir mıknatıs gibi olması

Bu olaylardan hangileri fizik biliminde meydana gelen gelişmelere öncülük eden kişilerin tespit ettiği olaylardandır?

- A) Yalnız I B) I ve II.
C) II ve III. D) I, II ve III.

2. Bilimsel yöntemle problem çözmek isteyen öğrenci problemle ilgili verilere uygun geçici çözümler üretmiştir.

Buna göre öğrenci bilimsel yöntemin hangi aşamasındadır?

- A) Kontrollü deney
B) Hipotezin kurulması
C) Verilerin toplanması
D) Problemin belirlenmesi

3. Fizik bilimindeki bazı temel büyüklükler ile birimleri aşağıda verilmiştir.

Temel Büyüklük	Birimi (SI)
Uzunluk	Metre
Kütle	Kilogram
Sıcaklık	Joule
Zaman	Saniye

Buna göre tabloda hangi büyüklüğün birimi (SI) birim sistemine göre yanlış verilmiştir?

- A) Sıcaklık B) Kütle
C) Uzunluk D) Zaman

4. Kütleli m olan bir cisim bir noktadan alınıp t sürede başka bir noktaya taşınıyor. Cisimde bu sürede kuzeye x uzaklığı kadar yer değiştiriyor.

Buna göre, yukarıda anlatılan olayda geçen büyüklüklerden hangisi vektörel bir büyüklüktür?

- A) Yer değiştirme
B) Kütle
C) Zaman
D) Uzaklık

5. Uzunluk ölçümünde kullanılan aşağıdaki birimlerden hangisi (SI) birim sisteminde kullanılır?

- A) Kulaç B) Metre
C) Parmak D) Karış

6. Bir kasanın kütlesi 0,50 ton gelmektedir.

Buna göre, bu kasa kaç kg'dır?

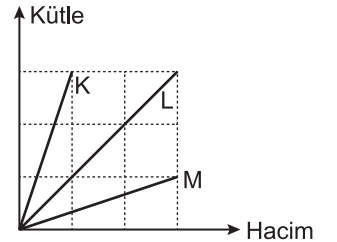
- A) 500 B) 250
C) 150 D) 50

7. Ahmet ve Mehmet aynı yerde bir kitabı aynı eşit kollu terazide, ayrı ayrı kütlelerini ölçüyorlar. Ölçüm sonunda ikisinin bulunduğu değerin farklı olduğunu görüyorlar.

Buna göre Ahmet ve Mehmet yaptıkları ölçümlerdeki hatanın kaynağı aşağıdakilerden hangisidir?

- A) Ölçen kişilerden
B) Ölçmenin yapıldığı ortamdan
C) Ölçme araçlarından
D) Ölçülen eşyadan

8. K, L ve M maddelerine ait kütle hacim grafiği şekildeki gibidir.

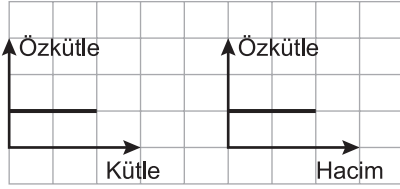


Buna göre maddelerin d_K , d_L ve d_M özkütelleri arasındaki ilişki aşağıdakilerin hangisinde doğru verilmiştir?

- A) $d_K > d_M > d_L$
B) $d_K > d_L > d_M$
C) $d_M > d_L > d_K$
D) $d_M > d_K > d_L$

1. OTURUM

9. Sabit sıcaklık ve basınç altında bir maddeye ait özkütle-kütle, özkütle-hacim grafikleri eşit bölmelendirilmiş kare üzerine şekildeki gibi çizilmiştir.



Buna göre

- Hacmin artması özkütleyi değiştirmez.
- Kütle ve hacmin artış oranı aynı olduğundan özkütle değişmez.
- Kütlenin artması özkütleyi değiştirmez.

yargılarından hangileri doğrudur?

- A) Yalnız I B) I ve II.
C) II ve III. D) I, II ve III.

10. Aynı maddeden yapılmış K, L ve M cisimlerine ait kesit alanları ve hacimleri tabloda verilmiştir.

Cisimler	Kesit alanları (m ²)	Hacimleri (m ³)
K	0,5	5
L	0,4	4
M	0,3	3

Buna göre K, L ve M cisimlerinin dayanıklılıkları ile ilgili aşağıdaki ifadelerden hangisi doğrudur?

- A) Dayanıklılığı en büyük K cisimidir.
B) Dayanıklılığı en küçük L cisimidir.
C) K, L ve M'nin dayanıklılığı eşittir.
D) Cisimlerden L'nin dayanıklılığı M'den büyüktür.

11. Günlük yaşamdan bazı olaylar aşağıda verilmiştir.

- Yağmur damlasının cama yapışık durması
- Su yüzeyinde yürüyen böceğin suda batmaması
- Su damlalarının düşerken küreye benzemesi

Bu olaylardan hangileri yüzey gerilimiyle açıklanabilir?

- A) Yalnız I B) Yalnız II.
C) II ve III. D) I ve III.

12. Aşağıdakilerden hangisi kılcallık olayı ile açıklanır?

- A) Su damlasının muslukta düşmeden asılı kalması
B) Sudan çıkan yüzücünün vücudunun ıslak olması
C) Peçetenin suyu çekmesi
D) Bardağın tabağa yapışması

13. Plazmalarla ilgili;

- Tanecikleri öteleme hareketi yapabilir.
- Elektrik akımını iletirler.
- Mıknatıstan etkilenirler.

yargılarından hangileri doğrudur?

- A) Yalnız I B) I ve II.
C) II ve III. D) I, II ve III.

14. Bazı hareket örnekleri aşağıda verilmiştir.

- Sarkaçlı saatlerin sarkacının hareketi
- Yürüyen merdivenin hareketi
- Dünyanın kendi eksenini etrafındaki hareketi

Bu hareket örneklerinden hangileri Fizik bilimindeki titreşim hareketine örnek olabilir?

- A) Yalnız I B) Yalnız II.
C) Yalnız III. D) II ve III.

15. Kuvvetler bir etkileşim sonucu oluşur. Bu etkileşim için cisimlerin bazen birbirleriyle temas etmesi gerekirken bazende gerekmez.

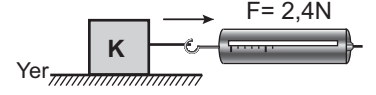
Buna göre;

- Rüzgarın uçurtmayı uçurması
- Ağaçtaki portakalın yere düşmesi
- Mıknatısın iğneyi çekmesi

hangileri temas gerektirmeyen kuvvet etkisi ile gerçekleşir?

- A) Yalnız I B) Yalnız II.
C) II ve III. D) I, II ve III.

16. K cisminin ağırlığı 20 N'dur. Cisim dinamometreyle yatay olarak çekiliyor ve dinamometre 2,4 N değerini gösterdiğinde harekete geçiyor.



Buna göre K cismi ile yüzey arasındaki sürtünme kat sayısı kaçtır? (Statik ve kinetik sürtünme katsayıları eşit)

- A) 0,12 B) 1,2
C) 12 D) 120

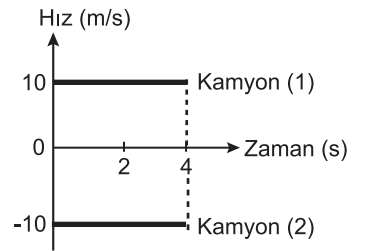
17. Sürtünme kuvvetinin ihmal edildiği bir yerde şekildeki cisme belirtilen yönlerde $F_1 = 8 \text{ N}$, $F_2 = 10 \text{ N}$, $F_3 = 10 \text{ N}$, $F_4 = 12 \text{ N}$ 'luk kuvvetler etki etmektedir.



Buna göre cisme etki eden net kuvvet kaç Newton'dur?

- A) 2 B) 4 C) 8 D) 12

18. Düz bir yolda aynı noktadan hareket eden iki kamyonun hız-zaman grafiği şekildeki gibidir.



Buna göre;

- Kamyonlar aynı yönde hareket etmiştir.
- 4 s sonunda kamyonlar arası uzaklık 80 m'dir.
- Kamyonlar 4 s sonunda yan yanadır.

yargılarından hangileri doğrudur?

- A) Yalnız I B) Yalnız II.
C) II ve III. D) I, II ve III.

1. OTURUM

19. Eylemsizlik ile ilgili olarak ;

- I. Maddelerin ortak bir özelliğidir.
- II. Kütleli olan her cismin eylemsizliğide vardır.
- III. Gazların ve sıvıların eylemsizliği yoktur.

yargılarından hangileri doğrudur?

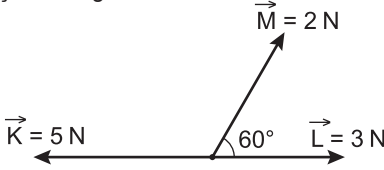
- A) I ve II. B) II ve III.
C) I ve III. D) I, II ve III.

20. Cisimlerin şeklinde ve hareketinde değişiklik oluşturan yada oluşturmaya çalışan etki aşağıdakilerden hangisidir?

- A) Özkütle B) Sürat
C) Hacim D) Kuvvet

(425) FİZİK – 5

1. Aynı düzlemde K, L ve M vektörleri şekildeki gibidir.

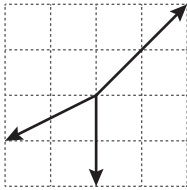


Buna göre bu vektörlerin bileşkesinin büyüklüğü kaç N'dur?

$$(\cos 60^\circ = \frac{1}{2}, \cos 30^\circ = \frac{\sqrt{3}}{2})$$

- A) 2 B) 3 C) 4 D) 5

2. Aynı düzlemde bulunan vektörler eşit bölmelendirilmiş düzlemde şekildeki gibidir.



Buna göre bileşke vektör aşağıdakilerin hangisinde doğru çizilmiştir?

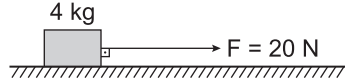
- A) B)
C) D)

3. Aynı doğrultuda ve farklı yönlerde giden iki aracın süratleri 50 km/h ve 40 km/h dir.

Araçlar birbirini geçerken araçlardaki bir gözlemci diğer aracın süratini kaç km/h olarak görür?

- A) 40 B) 50 C) 90 D) 100

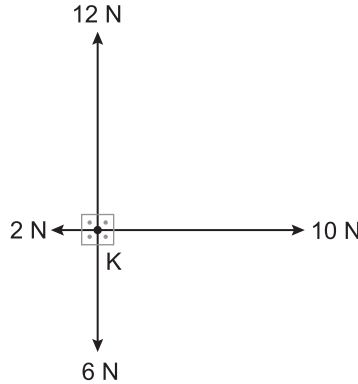
4. Sürtünme katsayısının 0,1 olduğu şekildeki zeminde duran 4 kg'lık kutuya 20 N'luk kuvvet uygulanıyor.



Buna göre kutunun kazanacağı ivme kaç N/kg dır? (g=10 N/kg)

- A) 2 B) 3 C) 4 D) 5

5. K noktasal cismi sürtünmesiz yatay düzlemde şekildeki gibi dört farklı kuvvet etkisindedir.



Buna göre cisme etki eden net kuvvet kaç N dur?

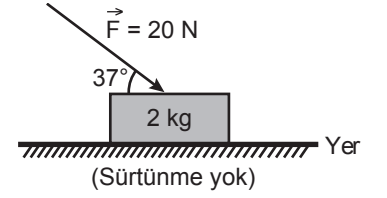
- A) 10 B) 8 C) 6 D) 4

6. Batıya doğru 10 m/s sabit hızla hareket eden bir geminin güvertesindeki yolcu, gemiye göre güneye doğru 5 m/s sabit hızla koşuyor.

Buna göre, yolcunun yere göre hızının büyüklüğü kaç m/s'dir?

- A) $5\sqrt{5}$ B) $4\sqrt{5}$
C) $3\sqrt{5}$ D) $2\sqrt{5}$

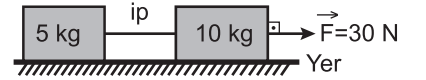
7. Yatay düzlemde durmakta olan 2 kg kütleli cisme 20 N'luk kuvvet şekildeki gibi 37°'lik açı ile uygulanıyor.



Buna göre cismin ivmesi kaç m/s² dir? (sin37 = 0,6; cos37= 0,8)

- A) 16 B) 10 C) 8 D) 6

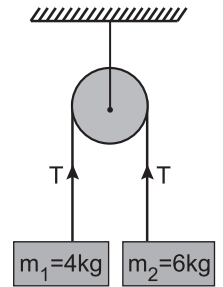
8. Kütleleri 5 kg ve 10 kg olan iki cisim sürtünmesiz ortamda 30 N'luk kuvvetle şekildeki gibi çekiliyor.



Buna göre ivme kaç m/s² dir?

- A) 1 B) 2 C) 3 D) 6

- 9.

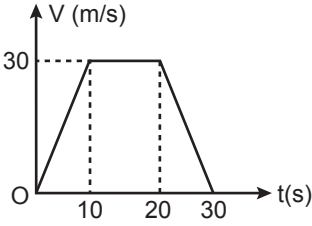


Şekildeki sürtünmesiz sistemde m₁ kütleli cismin bağlı olduğu ipteyne meydana gelen gerilme kuvveti (T) kaç Newton'dur? (g = 10 m/s²)

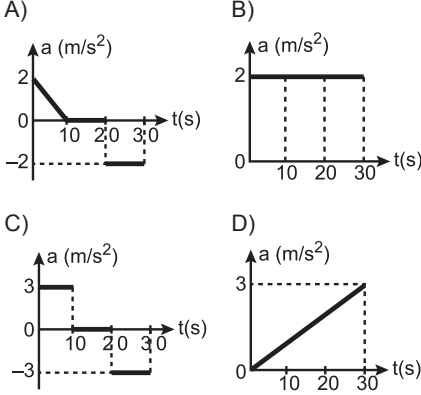
- A) 24 B) 48 C) 64 D) 86

1. OTURUM

10. Doğrusal bir yolda hareket eden otomobile ait hız-zaman grafiği şekildedeki gibidir.



Buna göre otomobilin ivme-zaman grafiği aşağıdakilerden hangisidir?



11. 20 m/s hızla giden bir kamyon sürücüsü kırmızı ışığı görünce frene basıp, sabit ivmeyle yavaşlayarak 4s sonra duruyor.

Buna göre kamyonun yavaşlama ivmesinin büyüklüğü kaç m/s^2 dir?

- A) 2 B) 5 C) 8 D) 10

12. Yerden 80 m yükseklikte bulunan bir dağcı elindeki çiviyi yere düşürüyor.

Buna göre çivinin yere düşme süresi kaç saniyedir?

(Sürtünme kuvveti ihmal ediliyor $g=10 m/s^2$)

- A) 2 B) 3 C) 4 D) 6

13. Sıvı ve gazların içerisinde hareket eden cisimlere hareketin zıt yönünde bir kuvvet etki eder. Bu kuvvet direnç kuvveti olarak isimlendirilir.

Buna göre direnç kuvveti ile ilgili

- Cismin hızının karesi ile doğru orantılıdır.
- Cismin hareket doğrultusuna dik en büyük kesit alanı ile doğru orantılıdır.
- Ortamın yoğunluğuna veya şekline bağlı olan direnç sabiti ile doğru orantılıdır.

yargılarından hangileri doğrudur?

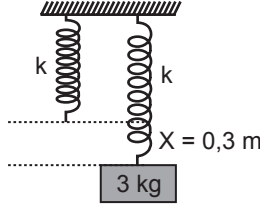
- A) I ve II. B) II ve III.
C) I ve III. D) I, II ve III.

14. Bir cisim yerden 45 m yükseklikten 30 m/s hızla yatay olarak atılıyor.

Cismin yere düşme süresi kaç saniyedir? (Sürtünme kuvveti ihmal ediliyor $g=10 m/s^2$)

- A) 2 B) 3 C) 4 D) 5

15. Ağırlığı önemsiz şekildeki yayın ucuna 3 kg kütleli cisim asıldığında yay 0,3 m uzayarak dengeye geliyor.



Buna göre yayın yay sabiti (k) kaç N/m 'dir? (Sürtünme kuvveti ihmal ediliyor $g=10 m/s^2$)

- A) 100 B) 200 C) 300 D) 400

16. Yerden 50 m yükseklikten serbest düşmeye bırakılan ve kütlesi 1 kg olan cisim yerden 10 m yükseklikte olduğunda hızı kaç m/s olur? (Sürtünme kuvveti ihmal ediliyor $g = 10 m/s^2$)

- A) $10\sqrt{2}$ B) $20\sqrt{2}$
C) $30\sqrt{2}$ D) $40\sqrt{2}$

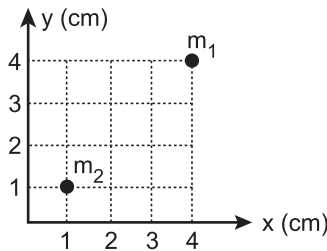
17. Esnek çarpışma ile ilgili;

- Çarpışma öncesinde ve sonrasında toplam momentum korunur.
- Çarpışma öncesinde ve sonrasında toplam kinetik enerji korunur.
- Çarpışma öncesi ve sonrası toplam momentum korunmaz.

yargılarından hangileri doğrudur?

- A) Yalnız I B) I ve III.
C) I ve II. D) II ve III.

18. Kütleleri $m_1 = 20 g$, $m_2 = 10 g$ olan iki parçacıktan oluşan sistem şekildeki gibidir.



Buna göre sistemin kütle merkezinin (km) koordinatları (X_{km} , Y_{km}) kaçtır?

- A) (1, 1) B) (2, 2)
C) (3, 3) D) (4, 4)

19. Türdeş 12 cm uzunluğundaki KL çubuğu ile 18 cm uzunluğundaki LM çubuğu şekildeki gibi birleştiriliyor.



Oluşan KM çubuğunun ağırlık merkezi K noktasından kaç cm uzaklıktadır?

- A) 15 B) 10 C) 5 D) 1

20. Günlük hayatta kullanılan bazı aletler aşağıda verilmiştir.

- Vida
- Kriko
- Makas

Bu aletlerden hangileri basit makine olarak adlandırılır?

- A) I ve II. B) II ve III.
C) I ve III. D) I, II ve III.

(432) KİMYA – 2

1. Aşağıda verilenlerden hangisi "atom" sınıfı bir kimyasal türdür?

- A) O_2 B) SO_3
C) Mg D) OH^-

2. Aşağıdakilerden hangisi kimyasal türler arası güçlü etkileşimlerden biridir?

- A) Dipol-dipol bağları
B) İyon-dipol bağları
C) Hidrojen bağı
D) Kovalent bağı

3. ${}_7N$ atomunun Lewis sembolü (gösterimi) aşağıdakilerden hangisidir?

- A) $\cdot N \cdot$ B) $\cdot \ddot{N} \cdot$ C) $\cdot \dot{N} \cdot$ D) $\cdot \ddot{N} \cdot$

4. $\cdot HCl$

- $\cdot F_2$
 $\cdot Cl_2$
 $\cdot H_2O$

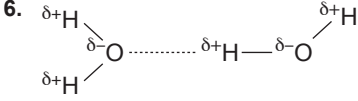
Yukarıda verilen moleküllerden kaç tanesinin atomları arasında apolar kovalent bağı bulunur?

- A) 1 B) 2 C) 3 D) 4

1. OTURUM

5. Aşağıda verilen elementlerden hangisinin atomları arasında metalik bağ bulunmaz?

- A) $_{16}\text{S}$ B) $_{13}\text{Al}$
C) $_{11}\text{Na}$ D) $_{3}\text{Li}$



Yukarıdaki şekilde kesikli çizgilerle (---) gösterilen kimyasal etkileşim türü, aşağıdakilerden hangisidir?

- A) Hidrojen bağı
B) Metalik bağ
C) Polar kovalent bağ
D) London kuvvetleri

7. I. Buzun erimesi
II. Camın kırılması
III. Kömürün yanması

Yukarıda verilen olaylardan hangileri fiziksel değişime örnektir?

- A) Yalnız I B) Yalnız III
C) I ve II. D) II ve III.

8.

F
Cl
Br

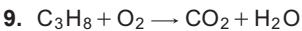
 Yandaki şekilde periyodik tablodan halojenlere ait bir kesit verilmiştir.

Buna göre aynı şartlar altında bulunan;

- I. F_2
II. Cl_2
III. Br_2

molekülleri arasındaki London kuvvetlerinin doğru karşılaştırılması aşağıdakilerden hangisidir?

- A) I > II > III B) I > III > II
C) III > II > I D) II > I > III



Tepkimesi en küçük tamsayılarla denkleştirildiğinde oksijen molekülünün katsayısı aşağıdakilerden hangisi olur?

- A) 2 B) 3 C) 4 D) 5

10. Aşağıdakilerden hangisi yanma tepkimesidir?

- A) $\text{HCl}_{(\text{suda})} + \text{NaOH}_{(\text{suda})} \rightarrow \text{NaCl}_{(\text{suda})} + \text{H}_2\text{O}_{(\text{s})}$
B) $\text{Ag}^+_{(\text{suda})} + \text{Cl}^-_{(\text{suda})} \rightarrow \text{AgCl}_{(\text{k})}$
C) $2\text{Mg}_{(\text{k})} + \text{O}_{2(\text{g})} \rightarrow 2\text{MgO}_{(\text{k})}$
D) $\text{H}^+_{(\text{suda})} + \text{OH}^-_{(\text{suda})} \rightarrow \text{H}_2\text{O}_{(\text{s})}$

11. Endüstride petrolün damıtılması ile elde edilen propan ve bütandan oluşan bir gaz karışımı olan LPG nin açılımı aşağıdakilerden hangisidir?

- A) Sıvılaştırılmış petrol gazı
B) Deodorantlardaki itici gaz
C) Soğutucularda kullanılan gaz
D) Sıvılaştırılmış doğal gaz

12. Aşağıda verilenlerden hangisi basınç birimi değildir?

- A) mmHg B) atm
C) mol D) bar

13. $235 \text{ K} = \dots \text{ }^\circ\text{C}$

Yukarıda verilen sıcaklık dönüşümünde boş bırakılan (---) yere hangisi yazılmalıdır?

- A) -508 B) -38
C) 38 D) 508

14. Belirli sıcaklık ve basınç koşullarında $6,02 \cdot 10^{22}$ tane H_2 gazı kaç moldür?

- A) 10 B) 5 C) 1 D) 0,1

15. 25°C 'ta 40 litrelik kapalı bir kaptaki azot gazının basıncı 8 atm'dir.

Aynı sıcaklıkta kabın hacmi 80 litreye çıkarılırsa kaptaki basınç kaç atm olur?

- A) 2 B) 4 C) 8 D) 16

16. Sabit hacimli kapalı bir kaptaki 127°C 'ta bir miktar gazın basıncı 6 atm'dir.

Bu gazın basıncı 9 atm'e çıkarıldığında sıcaklığı kaç $^\circ\text{C}$ olur?

- A) 600 B) 400 C) 327 D) 190

17. "Ağaçlar kökleri ile aldıkları suyu en uçtaki yaprağa kadar etkin --- kuvvetleri sayesinde iletir."

Verilen ifadede boş bırakılan yere (---) aşağıdakilerden hangisi yazılmalıdır?

- A) viskozite B) kohezyon
C) akıcılık D) adezyon

18. Bazı sıvıların viskoziteleri arasındaki ilişki; "Bal > gliserin > zeytinyağı > su" şeklindedir.

Buna göre aynı şartlar altındaki bu sıvılardan hangisinin akmaya karşı gösterdiği direnç en fazladır?

- A) Bal B) Su
C) Gliserin D) Zeytinyağı

19. Aşağıdakilerden hangisi amorf maddedir?

- A) Yemek tuzu B) Demir
C) Glikoz D) Cam

20. Aşağıdakilerden hangisi maddenin farklı fiziksel halleri arasındaki geçişlerden değildir?

- A) Erime B) Çözünme
C) Yoğuşma D) Buharlaştırma

(436) KİMYA – 6

1.

	Madde	Polar / Apolar
I	Sıvı NH_3	Polar
II	Benzen	Apolar
III	Br_2	Apolar

Verilen maddelerden hangileri saf suda iyi çözünür?

- A) Yalnız I B) Yalnız III
C) I ve II. D) II ve III.

2. 600 g kütlece %20 lik tuzlu su çözeltisine 200 g su ekleniyor. Oluşan çözelti kütlece yüzde kaçlıktır?

- A) 60 B) 40 C) 25 D) 15

1. OTURUM

3. 36 gram $C_6H_{12}O_6$ kullanılarak 400 mL çözelti hazırlanıyor.

Hazırlanan çözeltinin mol/L cinsinden derişimi aşağıdakilerden hangisidir?

($C_6H_{12}O_6 = 180 \text{ g/mol}$)

- A) 5 B) 2 C) 0,5 D) 0,2

4. Gazların çözünürlüğü ile ilgili verilen bilgilerden hangisi **yanlıştır**?

- A) Gazların çözünürlüğü sıcaklıkla ters orantılıdır.
B) Bütün gazların çözünürlüğü endotermiktir.
C) Gazların çözünürlüğü basınçla doğru orantılıdır.
D) Karıştırma ve temas yüzeyi gazların çözünürlüğünü değiştirmez.

5. I. Donma noktası alçalması
II. Buhar basıncı düşmesi
III. Kaynama noktası yükselmesi

Verilen özelliklerden hangileri çözeltilerdeki tanecik derişimine bağlı olarak değişir?

- A) Yalnız II B) I ve II.
C) II ve III. D) I, II ve III.

6. 2 molal şekerli su çözeltisi 1 atm basınçta kaç $^{\circ}C$ 'ta donmaya başlar? (Su için $K_d: 1,86^{\circ}C/m$)

- A) -3,72 B) -2,62
C) 2,62 D) 3,72

7. Aşağıdakilerden hangisi izokorik sisteme örnektir?

- A) Termostaki çay
B) İnsan vücudu
C) Dödüklü tencere
D) Otomobil motoru

8. Termodinamiğe ait niceliklerin değişimlerini gösteren işaretleme kuralları hangisinde **yanlış** verilmiştir?

	Süreç	İşaret
A) İş(W)	Sistem çevreye iş yapıyor	-
B) Isı(Q)	Çevreden sisteme ısı aktarılıyor	+
C) İş(W)	Çevre sisteme iş yapıyor	+
D) Isı(Q)	Sistemden çevreye ısı aktarılıyor	+

9. Bir gazın sıkıştırılması sırasında sisteme 300 J'lük iş yapılmaktadır. Sistemin iç enerji artışı 225 J olduğuna göre alınan veya verilen ısı kaç J olur?

- A) +85 B) +75
C) -75 D) -85

10. I. $CO_{(g)} \rightarrow C_{(k)} + \frac{1}{2}O_{2(g)} \Delta H^{\circ} = +110,5 \text{ kJ/mol}$

- II. $CO_{2(g)} \rightarrow C_{(k)} + O_{2(g)} \Delta H^{\circ} = +393,5 \text{ kJ/mol}$

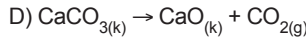
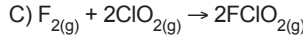
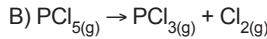
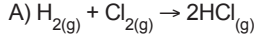
Yukarıda verilen tepkimelerin entalpi değerleri bilindiğine göre;



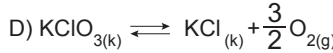
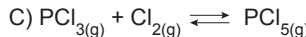
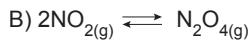
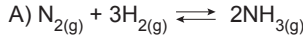
tepkimesinin ΔH° değeri kaç kJ/mol'dür?

- A) +514 B) +283
C) -283 D) -514

11. Tek basamakta gerçekleşen aşağıdaki tepkimelerden hangisinin tepkime derecesi 2'dir?

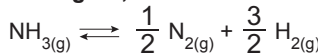


12. Aşağıdaki tepkimelerden hangisi heterojen denge tepkimesidir?



13. $N_{2(g)} + 3H_{2(g)} \rightleftharpoons 2NH_{3(g)}$ tepkimesinin belli bir sıcaklıkta K_c değeri 25'tir.

Buna göre;



tepkimesinin aynı sıcaklıktaki K_c değeri aşağıdakilerden hangisidir?

- A) $\frac{1}{25}$ B) $\frac{1}{5}$ C) 5 D) 25

14. $COCl_{2(g)} \rightleftharpoons CO_{(g)} + Cl_{2(g)}$

tepkimesi sabit hacimli bir kapta belli bir sıcaklıkta dengededir.

Buna göre aynı sıcaklıkta tepkime kabına;

- I. $COCl_2$ gazı eklemek
II. CO gazı eklemek
III. Cl_2 gazı çekmek

işlemlerinden hangileri uygulanırsa tepkime ürünler yönünde ilerler?

- A) Yalnız I B) Yalnız II
C) I ve III. D) II ve III.

15. $2CO_{2(g)} \rightleftharpoons 2CO_{(g)} + O_{2(g)}$

tepkimesi 1 litrelik kapalı bir kapta dengede bulunan ortamda 2 mol CO_2 , 4 mol CO ve 2 mol O_2 gazları bulunmaktadır.

Buna göre tepkimenin derişimler cinsinden denge sabiti (K_c) kaçtır?

- A) 8 B) 10 C) 12 D) 16

16. $25^{\circ}C$ 'ta hazırlanan sulu bir çözeltide bulunan H^+ iyonları derişimi $1.10^{-5} M$ 'dir.

Buna göre çözelti için verilen;

- I. $[OH^-]$ iyon derişimi $1.10^{-9} M$ 'dir.
II. pH değeri 5'tir.
III. pOH değeri 9'dur.

bilgilerinden hangileri doğrudur?

- A) Yalnız II B) I ve II.
C) II ve III. D) I, II ve III.

17. Aşağıda verilen konjuge asit - baz çiftlerinden hangisi **yanlıştır**?

	Asit	Baz
A)	H_2SO_4	HSO_4^-
B)	HNO_3	NO_3^-
C)	NH_3	NH_4^+
D)	HCl	Cl^-

18. Oda koşullarında hazırlanan 0,1 M'lık HF sulu çözeltisinin pH değeri 5'tir.

Buna göre HF asidinin K_a değeri aşağıdakilerden hangisidir?

- A) 1.10^{-10} B) 1.10^{-9}
C) 1.10^{-5} D) 1.10^{-1}

1. OTURUM

19. $\text{Ca}(\text{OH})_2$ katısının çözünürlük çarpımı bağıntısı aşağıdakilerden hangisidir?

- A) $K_{\text{çç}} = [\text{Ca}^{2+}][\text{OH}^-]^2$
B) $K_{\text{çç}} = [\text{Ca}^{2+}][\text{OH}^-]$
C) $K_{\text{çç}} = [\text{Ca}^{2+}]^2[\text{OH}^-]$
D) $K_{\text{çç}} = [\text{Ca}^{2+}][2\text{OH}^-]$

20. AgCl (Gümüş klorür) katısının belli bir sıcaklıktaki çözünürlük çarpımı ($K_{\text{çç}}$) $1,6 \cdot 10^{-9}$ dur.

Buna göre AgCl katısının aynı sıcaklıkta saf sudaki çözünürlüğü kaç M'dir?

- A) $8 \cdot 10^{-5}$ B) $4 \cdot 10^{-5}$
C) $8 \cdot 10^{-4}$ D) $4 \cdot 10^{-4}$

(441) BİYOLOJİ – 1

1. Aşağıda verilenlerden hangisi bilim insanlarının sahip olması gereken özelliklerden biri değildir?

- A) Ön yargıdan uzak ve tarafsızdır.
B) Akılcı ve gerçekçidir.
C) Bilim adamlarının ortaya koyduğu tüm teorileri kabul etmelidir.
D) Yeniliklere açık ve aydın bir kişiliğe sahiptir.

2. Biyoloji bilimindeki gelişmeler,

- I. İlaç üretimi
II. Kök hücre tedavisi
III. Hastalıkların teşhis ve tedavisi
verilen uygulamalardan hangilerini olumlu etkilemiştir?

- A) Yalnız I B) I ve II.
C) I ve III. D) I, II ve III.

3. Kontrollü deney düzeneklerinde etkisi araştırılan koşul aşağıdakilerden hangisi ile ifade edilir?

- A) Kontrol grubu
B) Bağımsız değişken
C) Sabit değişken
D) Bağımlı değişken

4. Suç ve suçluların tespit ve ispatı için çalışmalar yapan biyoloji çalışma alanı aşağıdakilerden hangisidir?

- A) Moleküler Biyoloji
B) Kriminal Biyoloji
C) Çevre Biyolojisi
D) Hidrobiyoloji

5. Aşağıdakilerden hangisi canlıların ortak özelliklerinden biri değildir?

- A) Özümlenme B) Yadımlama
C) ATP sentezi D) Fotosentez

6. I. Hücre
II. Doku
III. Organ

Yukarıda verilen organizasyon birimlerinin büyüten küçüğe doğru sıralaması hangi seçenekte verilmiştir?

- A) III, II, I. B) II, III, I.
C) II, I, III. D) I, II, III.

7. Aşağıdakilerden hangisi inorganik bileşiklerden birisidir?

- A) Su B) Yağ
C) Vitamin D) Nükleik asit

8. Su moleküllerinin birbirinden kopmadan bir arada kalmaları özelliğine kohezyon adı verilir.

Suyun bu özelliğinin;

- I. Ortam sıcaklığının korunması
II. Bitkilerde su ve mineral taşınması
III. Böceklerin su üstünde yürüebilmesi

olaylarından hangilerinin gerçekleşmesinde rolü vardır?

- A) Yalnız I B) Yalnız II.
C) II ve III. D) I, II ve III.

9. Yağlarla ilgili aşağıdaki ifadelerden hangisi yanlıştır?

- A) Hücre zarının yapısına katılır.
B) Yapı taşı yağ asidi ve glikozdur.
C) İkinci derece enerji kaynağıdır.
D) Isı yalıtımını sağlar.

10. I. Doku onarımı
II. Madde geçişi
III. Bağışıklık

Yukarıdaki olayların hangilerinde proteinler görev alır?

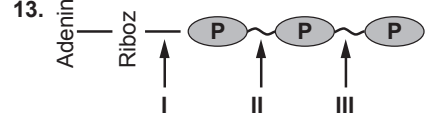
- A) Yalnız I B) I ve III.
C) II ve III. D) I, II ve III.

11. Bir polisakarrit olan glikojen aşağıdaki canlılardan hangisi tarafından sentezlenmez?

- A) Bitki B) Bakteri
C) Mantar D) Hayvan

12. Aşağıdaki canlılardan hangisinde DNA ve RNA birlikte bulunmaz?

- A) Virüs
B) Bakteri
C) Bitki hücresi
D) Hayvan hücresi



ATP'nin yapısında numaralar ile gösterilen hangi bağlar, yüksek enerjili fosfat bağıdır?

- A) Yalnız I B) I ve II.
C) II ve III. D) I, II ve III.

14. I. Aktivasyon enerjisini düşürürler.
II. Reaksiyona özel moleküllerdir.
III. Sıcaklık ve pH değişiminden etkilendirler.

Verilen ifadelerden hangileri enzimler için doğrudur?

- A) Yalnız I B) I ve III.
C) II ve III. D) I, II ve III.

15. I. Sıcaklık
II. Yoğunluk farkı
III. Por sayısı
IV. Molekül büyüklüğü

Hücre ve bulunduğu ortam için yukarıda verilenlerden hangilerinin artışı difüzyon hızını azaltıcı yönde etki yapar?

- A) Yalnız I B) Yalnız IV
C) II ve III. D) I, II ve IV.

16. I. Hücre zarı
II. DNA
III. Çekirdek

Yukarıdakilerden hangileri prokaryot ve ökaryot hücrelerde ortak olarak bulunur?

- A) Yalnız I B) I ve II.
C) II ve III. D) I, II ve III.

17. Aşağıdaki hücre organellerinden hangisinde zarlı yapı görülmez?

- A) Golgi B) Köfül
C) Sentrozom D) Lizozom

1. OTURUM

18. I. Hücreyi dış ortamdan ayırır.
II. Hücrede madde alış verişini düzenler.
III. Yapısında yağ, protein ve karbonhidratlar bulunur.

Yukarıdakilerden hangileri hücre zarının özelliklerindedir?

- A) Yalnız I B) I ve II.
C) II ve III. D) I, II ve III.

19. **Aşağıdakilerden hangisi pasif madde taşınmasının özelliklerinden biri değildir?**

- A) ATP harcanmaz.
B) Canlı ve cansız ortamlarda görülebilir.
C) Madde geçişi az yoğun ortamdan çok yoğun ortama doğrudur.
D) Difüzyon, kolaylaştırılmış difüzyon ve osmoz gibi çeşitleri vardır.

20. **Aşağıdakilerden hangisi hücre iskeleti elemanlarından biri değildir?**

- A) Makrotübüller
B) Mikrotübüller
C) Ara filamentler
D) Mikrofilamentler

(443) BİYOLOJİ – 3

1. **Mitoz bölünme sırasında gerçekleşen aşağıdaki olaylardan hangisi diğerlerinden önce meydana gelir?**

- A) Çekirdek zarının oluşması
B) Kromozomların kutuplara çekilmesi
C) Sitokinezin gerçekleşmesi
D) Kromozomların ekvatorial düzlemde dizilmesi

2. **Aşağıdakilerden hangisi mitoz bölünme ile gerçekleşen bir olay değildir?**

- A) Yaraların iyileşmesi
B) Çeşitlilik oluşması
C) Organların büyümesi
D) Saçların uzaması

3. **Bitki ve hayvan hücrelerinde mitozun sitoplazma bölünmesi ile ilgili olarak aşağıdakilerden hangisi yanlıştır?**

- A) Her iki bölünme sonucunda iki yavru hücre meydana gelir.
B) Hayvan hücrelerinde boğumlanma, bitki hücrelerinde ara lamel oluşumu ile gerçekleşir.
C) Bitki hücrelerinde golgi aygıtından kopan kesecikler hücrenin ortasında ara lameli oluşturur.
D) Hayvan hücresinde sitoplazma bölünmesi çekirdek bölünmesinden önce gerçekleşir.

4. **Afrika menekşesinden alınan bir yaprağın köklendirilerek yeni bir bitki elde etme yöntemi aşağıdakilerden hangisidir?**

- A) Bölünme
B) Sporlanma
C) Vejetatif üreme
D) Tomurcuklanma

5. **Aşağıda verilen üreme tiplerinden hangisinde ana bireyler ile aynı kalıtsal özelliklere sahip yavrular meydana gelmez?**

- A) Tomurcuklanma
B) Konjugasyon
C) Sporla üreme
D) Bölünerek üreme

6. **Bitkilerdeki üreme şekillerinden biri de aşılamadır.**

Aşılama ve uygulanışı ile ilgili verilenlerden hangisi yanlıştır?

- A) Aşılama ile bitkinin ürün kalitesi değiştirilir.
B) Bitkinin alt kısmına ve köküne anaç denir.
C) Kaliteli ürün veren bitkinin devamlılığı sağlanır.
D) Eklenen bölüm yeni oluşan bitkinin üst kısmını oluşturur.

7. **Aşağıda verilen canlıların hangisinde rejenerasyonla çoğalma gözlenir?**

- A) İnsan B) Örümcek
C) Semender D) Deniz yıldızı

8. **Aşağıda verilen hücrelerin hangisi mayoz bölünme geçiremez?**

- A) Yumurta hücresi
B) Sperm ana hücresi
C) Yumurta ana hücresi
D) Spor ana hücresi

9. **Aşağıda verilenlerin hangisinde kalıtsal çeşitlilik görülmez?**

- A) Partenogenez
B) Rejenerasyon
C) Konjugasyon
D) Mayoz

10. **Bakterilerde eşey piluslarının oluşumu için gerekli bilgiyi taşıyan ve kendini eşleyebilen halkasal DNA molekülü aşağıdakilerden hangisidir?**

- A) Plazmit B) Partenogenez
C) Konjugasyon D) Eşaysız üreme

11. **Aşağıdakilerden hangisi erkek üreme sistemine ait bir yapı değildir?**

- A) Epididimis
B) Vas deferens
C) Semifer tüpçük
D) Fallopi tüpü

12. **Erkek üreme sisteminde oluşan hücrelerden hangisi 2n (diploit) kromozomludur?**

- A) Birincil spermatosit
B) İkincil spermatosit
C) Spermatit
D) Sperm

13. **İnsanda embriyonik gelişim basamaklarının oluşum sırası aşağıdakilerden hangisinde doğru verilmiştir?**

- A) Organogenez – Gastrulasyon – Segmentasyon
B) Gastrulasyon – Segmentasyon – Organogenez
C) Segmentasyon – Gastrulasyon – Organogenez
D) Segmentasyon – Organogenez – Gastrulasyon

14. **Hamilelerde döl yatağı kaslarının kasılmasını uyararak, doğum sancısı ile birlikte doğumun gerçekleşmesini sağlayan ve hipofizden salgılanan hormon hangisidir?**

- A) Lüteinleştirici hormon
B) Progesteron
C) Oksitosin
D) Östrojen

1. OTURUM

(446) BİYOLOJİ – 6

15. Menstrual döngü sırasındaki,
I. Ovulasyon
II. Menstruasyon
III. Korpus luteum
IV. Folikül
evrelerin sıralaması hangi seçenekte verilmiştir?
- A) I – III – IV – II
B) II – I – III – IV
C) III – IV – II – I
D) IV – I – III – II
16. İnsanın dişi üreme sisteminde olgunlaşan yumurta hücresi folikülün yırtılması ile yumurtalıktan atılır ve atılan yumurta kirpikli huni tarafından tutularak yumurta kanalına geçer.
Bu olay menstrual döngünün hangi evresinde gerçekleşir?
- A) Folikül evresi
B) Ovulasyon evresi
C) Korpus luteum evresi
D) Menstruasyon evresi
17. Embriyonun gelişimi için ihtiyaç duyduğu besin maddelerinin depo edildiği embriyonik zar aşağıdakilerden hangisidir?
- A) Vitellüs kesesi
B) Amniyon sıvısı
C) Allantoyis
D) Koriyon
18. Aşağıdakilerden hangisi cinsel yolla bulaşan hastalıklardan biri değildir?
- A) AIDS
B) Verem
C) Frengi
D) Hepatit B
19. Hepatit B vücudumuzda hangi organın yapı ve fonksiyonlarına zarar verir?
- A) Kalp
B) Akciğer
C) Karaciğer
D) Kalın bağırsaklar
20. I. Genital bölgede enfeksiyona neden olur.
II. Bazı tiplerinin genital bölge kanserlerine neden olduğundan şüphelenilmektedir.
III. Genital bölge ve anüs etrafında siğiller oluşması ile belirti verir.
Verilen özellikler aşağıdaki hastalıklardan hangisine aittir?
- A) HPV
B) AIDS
C) Frengi
D) Hepatit B

1. I. Bükülme özelliği fazladır.
II. Kollajen liflerden dolayı basınca karşı dayanıklıdır.
III. Soluk borusu, burun ve kaburga uçlarında bulunur.
Yukarıdakilerden hangileri hiyalin kıkırdak için doğrudur?
- A) Yalnız I
B) I ve II.
C) II ve III.
D) I, II ve III.
2. Çizgili kasların kasılması sırasında meydana gelen değişimler için seçeneklerdeki ifadelerden hangisi doğrudur?
- A) A bandı daralır.
B) H bandı kaybolur.
C) I bandı genişler.
D) Z çizgileri birbirinden uzaklaşır.
3. Bir çizgili kasın kasılması sırasında aşağıdaki kimyasallardan hangisinin hücredeki miktarı artar?
- A) ATP
B) Glikojen
C) Kreatin fosfat
D) Laktik asit
4. Aşağıdakilerden hangisi D vitamininin yetersiz alınması sonucu Ca^{+2} ve P eksikliğine bağlı ortaya çıkan iskelet sistemi rahatsızlığıdır?
- A) Raşitizm
B) Bel fıtığı
C) Menisküs
D) Ülser
5. Aşağıdakilerden hangisi sindirim kanalında yer alan bir organ değildir?
- A) Mide
B) Pankreas
C) Yemek borusu
D) Kalın bağırsak
6. I. Besinlerin depo edilmesi.
II. Kasılma hareketleri ile mekanik sindirim yapılması.
III. Salgılanan enzimlerle proteinlerin kimyasal sindiriminin başlaması.
Yukarıdakilerden hangileri midenin görevlerindedir?
- A) Yalnız I
B) I ve II.
C) I ve III.
D) I, II ve III.

7. Aşağıdaki enzimlerden hangisi karbonhidratların sindiriminde görev alır?
- A) Amilaz
B) Pepsin
C) Lipaz
D) Tripsin
8. Mide mukozasının yıpranma ve zarar görmesi ile ortaya çıkan sindirim sistemi hastalığı aşağıdakilerden hangisidir?
- A) İshal
B) Gastrit
C) Kabızlık
D) Laktoz hassasiyeti
9. Kalbi oluşturan tabakaların dıştan içe doğru sıralanışı aşağıdakilerden hangisinde verilmiştir?
- A) Endokard – Miyokard – Perikard
B) Miyokard – Perikard – Endokard
C) Perikard – Miyokard – Endokard
D) Perikard – Endokard – Miyokard
10. Aşağıdakilerden hangisi kalbin atış hızını yavaşlatır?
- A) Adrenalin
B) Asetil kolin
C) Nikotin ve kafein
D) Kanın pH'nın azalması
11. I. Ömürleri yaklaşık 120 gündür.
II. Kan içinde en fazla bulunan kan hücresi çeşitidir.
III. Yapısında hemoglobin denilen demir içeren protein bulunur.
Verilenlerden hangileri alyuvarlar için doğrudur?
- A) Yalnız I
B) I ve II.
C) I ve III.
D) I, II ve III.
12. Kan gruplarının taşıdığı antijen ve antikolarla ilgili aşağıdakilerden hangisi doğrudur?
- A) B kan grubu, B antijeni taşır ve anti A antikoru üretebilir.
B) 0 kan grubunda A ve B antijeni varken, antikor üretimi görülmez.
C) A kan grubu, A antijeni taşır ve anti A antikoru üretebilir.
D) AB kan grubunda A ve B antijeni bulunur ayrıca anti A ve anti B antikoru üretebilir.

1. OTURUM

13. Burundan alınan havanın alveollere ulaşmaya kadar izlediği yol aşağıdakilerden hangisinde doğru olarak verilmiştir?

- A) Yutak – gırtlak – soluk borusu – bronş – bronşçuk
- B) Gırtlak – yutak – soluk borusu – bronşçuk – bronş
- C) Yutak – gırtlak – bronş – soluk borusu – bronşçuk
- D) Yutak – gırtlak – soluk borusu – bronşçuk – bronş

14. Bronşiolerin uç kısımlarında üzüm salkımına benzeyen, gaz değişiminin gerçekleştiği, yüzeyin artırdığı tek katlı epitelden oluşan keselerdir.

Yukarıda tanımı verilen solunum sistemi yapısı aşağıdakilerden hangisidir?

- A) Yutak
- B) Gırtlak
- C) Alveoller
- D) Soluk borusu

15. Aşağıdakilerden hangisi solunum sistemi hastalıklarından biri değildir?

- A) Astım
- B) Vurgun
- C) Pnömoni
- D) Osteoporoz

16. Aşağıdakilerden hangisi idrar oluşumunun aşamalarından biri değildir?

- A) Süzülme
- B) Salgılama
- C) Ayırıştırma
- D) Geri emilim

17. Nefronun hangi kısmı suya geçirgen olmayıp, suyun geri emilimi yapılmaz?

- A) Distal tüp
- B) Proksimal tüp
- C) Henle kulpunun çıkan kolu
- D) Henle kulpunun inen kolu

18. I. Kanın pH'ını ayarlar.

II. Azotlu atıklar olan üre ve ürik asidin vücuttan uzaklaştırılmasını sağlar.

III. Alyuvar yapımını sağlayan hormon olan eritropoietin hormonunu üretir.

Verilenlerden hangileri boşaltım sisteminin görevleri arasında yer alır?

- A) Yalnız I
- B) I ve II.
- C) I ve III.
- D) I, II ve III.

19. Davranışı inceleyen bilim dalı aşağıdakilerden hangisidir?

- A) Sitoloji
- B) Etoloji
- C) Anatomi
- D) Morfoloji

20. Klasik koşullanma (Şartlı koşullanma) ile ilgili ilk çalışmayı aşağıdaki bilim insanlarından hangisi gerçekleştirmiştir?

- A) İvan Pavlov
- B) Wolfgang Köhler
- C) Konrad Zacharias Lorenz
- D) Burrhus Frederic Skinner

(461) EKONOMİ – 1

1. Aşağıdakilerden hangisi üretim faaliyetleri sonucunda değişikliğe uğrar?

- A) Ulaşım araçları
- B) Ham maddeler
- C) Makineler
- D) Binalar

2. Ekonomide fiyat artış hızının yavaşlatılması, fiyatlarda az çok uzun bir süre içinde büyük oranlı değişmelerin önlenmesi, aşağıda verilen ekonomi politikasının başlıca hedeflerinden hangisiyle ilgilidir?

- A) Tam İstihdam
- B) Ekonomik Denge
- C) Hakça Gelir Dağılımı
- D) Ekonomik Büyüme ve Kalkınma

3. Aşağıdakilerden hangisi kültürel mal olarak kabul edilir?

- A) Su
- B) Elbise
- C) Ekmek
- D) Televizyon

4. Aşağıda verilen açıklamalardan hangisi tımdengelinin yetersizliklerinden biri değildir?

- A) Olaylarla olan ilimiz kesilebilir.
- B) Bizî gözlemden yoksun bırakabilir.
- C) Somut şartlar üzerinden olayları inceler.
- D) Gerçeğe uygunluk kontrolü yapmamıza engel olabilir.

5. İnsanların siyah-beyaz televizyon yerine renkli televizyonu seçmeleri aşağıda verilen ihtiyaç yasalarından hangisine bir örnek teşkil eder?

- A) İhtiyaçların miktarı sınırsızdır.
- B) İhtiyaçlar birbirine rakiptir.
- C) Bazı ihtiyaçların kapasiteleri sınırlıdır.
- D) İhtiyaçlar değişmektedir.

6. Servet ile ilgili verilen bilgilerden hangisi yanlıştır?

- A) Servet görecelidir.
- B) Servet bir miktardır.
- C) Toplam olarak ifade edilir.
- D) Servetin göstergesi sadece paradır.

7. Aşağıda verilenlerden hangisi "Üretim Değer Meydana Getirmek" görüşüne aykırı bir açıklamadır?

- A) Faaliyet süresince malın şekli değişir.
- B) Madde yerine başka bir madde geçer.
- C) Eski maddelerin değerleri daha büyük olur.
- D) Faaliyet sonunda malın değeri artar.

8. Pamuğun yeterli ölçüde üretildiği bölge ve ülkelerde tekstil endüstrisi de gelişir.

Verilen açıklama, hangi üretim faktörünün etkisi ile ilgilidir?

- A) Emek
- B) Doğa
- C) Sermaye
- D) Girişimci

9. Aşağıdakilerden hangisi birinci enerji kaynakları arasında yer almaz?

- A) Biogaz
- B) Doğal gaz
- C) Nükleer enerji
- D) Rüzgar enerjisi

10. Aşağıdaki açıklamaların hangisinde bir emek vardır?

- A) Dağ sporu yapmak
- B) Otomobil kullanmak
- C) Bir şoförün faaliyetleri
- D) Zevk için kürek çekmek

11. İyi işletilmeyen bir fabrikanın başkaları tarafından satın alınarak daha faydalı şekilde çalıştırılması, hangi üretim faaliyeti ile açıklanabilir?

- A) Mülkiyet faydası meydana getiren üretim faaliyetleri
- B) Mekan faydası yaratan üretim faaliyetleri
- C) Zaman faydası meydana getiren üretim faaliyetleri
- D) Şekil faydası yaratan üretim faaliyetleri

1. OTURUM

12. Aşağıdakilerden hangisi hızlı nüfus artışının olumsuz sonuçlarından biridir?

- A) İç ve dış göçler artar.
- B) Ekonomik faaliyetler hızlanır.
- C) Ülke kaynakları kolay işletilir.
- D) Üretici güç olarak emek artışı olur.

13. Ülkemiz akarsularından faydalanılmasında, aşağıdakilerden hangisinin olumsuz bir etki yaratmadığı kabul edilebilir?

- A) Yüzey şekillerinin engebelik bir alan kaplaması
- B) Akarsular üzerinde barajların yapılması
- C) Akarsuların sel rejimine bağlı olması
- D) İklimin dört mevsimde değişiklikler göstermesi

14. Aşağıda verilenlerden hangisi vasıfsız emeğe bir örnektir?

- A) Terzilik
- B) Kunduracılık
- C) Temizlikçilik
- D) Mobilyacılık

15. Aşağıdakilerden hangisi dolaylı tüketimdir?

- A) Tatile gidilerek otelde konaklama yapılması
- B) Kumaş üretiminde yünün kullanılması
- C) Otobüste seyahat edilmesi
- D) Elbisenin giyilerek eskitilmesi

16. Üretim faaliyeti süresince malın şeklinin değişmesi ve madde yerine başka bir maddenin geçmesi durumu, üretim ile ilgili aşağıda verilen ekonomik görüşlerden hangisini açıklamaktadır?

- A) Üretim, madde meydana getirmektir.
- B) Üretim, değer meydana getirmektir.
- C) Üretim, ekonomik malların miktarını artırmaktır.
- D) Üretim, ekonomik malların faydasını artırmaktır.

17. Aşağıdakilerden hangisi ülkemizdeki hidroelektrik santrallerinden biridir?

- A) Seyitömer
- B) Tunçbilek
- C) Yatağan
- D) Keban

18. Kâr amacıyla üretim faaliyetinde bulunmak için üretim faktörlerinin organize edildiği ekonomik ünitelere ne ad verilir?

- A) Fabrika
- B) Mağaza
- C) Girişim
- D) Büro

19. Türkiye'de millî gelir hesaplamaları hangi yıl başlamıştır?

- A) 1923
- B) 1924
- C) 1927
- D) 1930

20. Devletin, bazı malların ithal ve ihracını yasaklayan önlemleri, ekonomi politikasının hangi vasıtaları olarak adlandırılır?

- A) Emredici
- B) Nicelik Belirleyen
- C) Nitelik Belirleyen
- D) Yönlendirici

3. Aşağıdakilerden hangisi İslam dininin bireye sağladığı faydalardan biri değildir?

- A) İnsanın kendisine olan güvenini artırır.
- B) İnsan ruhunun isteklerine cevap verir.
- C) İnsanın dünyaya olan düşkünlük ve bağlılığını artırır.
- D) İnsanın yeryüzündeki anlam arayışına karşılık verir.

4. Aşağıdakilerden hangisi Doğu Asya dinleri arasında yer alır?

- A) Sihizm
- B) Budizm
- C) Caynizm
- D) Şintoizm

5. Yahudi kaynaklarına göre İsrailoğullarının tarihi hangi peygamberle başlar?

- A) Hz. İbrahim
- B) Hz. Âdem
- C) Hz. Musa
- D) Hz. Davut

6. I. Hinduizm
II. Taoizm
III. İsevilik
IV. Musevilik

Verilenlerden hangileri ilahi olmayan dinlerdendir?

- A) I ve II.
- B) I ve IV.
- C) II ve III.
- D) III ve IV.

7. Aşağıdakilerden hangisi İslam'ın temel özelliklerinden biri değildir?

- A) Bütün insanlara gönderilmiş evrensel bir dindir.
- B) Günümüze kadar gelen ve bozulmayan son dindir.
- C) İslam'a göre önce inanmak sonra araştırmak gerekir.
- D) İslam, bütün peygamberlere gönderilen ilahi mesajların adıdır.

8. Aşağıdaki tarihlere ait bilgilerden hangisi yanlıştır?

- A) 571-Hz. Peygamber'in doğumu
- B) 610-Hz. Peygamber'in ilk evliliği
- C) 622-Mekke'den Medine'ye hicret
- D) 632-Hz. Muhammed'in vefat ettiği yıl

9. Aşağıdaki ibadetler ve bu ibadetlerle ilgili kavram eşleştirmelerinden hangisi yanlıştır?

- A) Namaz - Secde
- B) Hac - Tavaf
- C) Kurban - Mukabele
- D) Oruç - İftar

(465) TEMEL DİNİ BİL. – 1

1. Akıl sahibi insanları özgür iradeleri ile dünyada iyiye, doğruya ve güzele; ahirette ise ebedi mutluluğa ulaştırmayı amaçlayan ilahi kanunlar bütünüdür.

Tanımı verilen kavram aşağıdakilerden hangisidir?

- A) Din
- B) İman
- C) Ahlak
- D) İbadet

2. Çok tanrıcılık anlamına gelir. İlkel kabilelerde görülen bir inançtır. Bu tanrılar arasında belli bir görev tasimatı vardır. Şintoizm, Hinduizm ve Zerdüşlük bu inanca sahip dinlerdendir.

Hakkında bilgi verilen inanma biçimi aşağıdakilerden hangisidir?

- A) Agnostizm
- B) Politeizm
- C) Monoteizm
- D) Gnostizm

1. OTURUM

(477) İŞLETME – 2

10. Aşağıdakilerden hangisi iman esaslarından biri değildir?

- A) Allah'a iman
- B) Ahiret gününe iman
- C) Peygamberlere iman
- D) Akla iman

11. Aşağıdakilerden hangisi dua ile ilgili bir bilgi değildir?

- A) İnsanın zayıflığını anlayarak Allah'a yalvarmasıdır.
- B) Hz. Peygamber ibadetin özü olduğunu ifade eder.
- C) Kelime olarak " iyi iş ve davranış " anlamlarına gelmektedir.
- D) İnsanın Allah'ı, Rab ve İlah kabul etmesidir.

12. Ramazan ayının önemli olmasının asıl sebebi aşağıdakilerden hangisidir?

- A) Haram aylardan biri olması
- B) Kur'an'ın bu ayda inmeye başlaması
- C) Teravih namazının bu ayda kılınması
- D) Yardımlaşma ve dayanışmanın bu ayda artması

13. • İnek kutsal kabul edilir.
• Din adamlarına Brahman denir.
• Ganj nehrinde yıkanmak ibadettir.

Hakkında bilgi verilen din hangisidir?

- A) Budizm
- B) Konfüçyanizm
- C) Hinduizm
- D) Taoizm

14. Vakit namazlarından hangilerinin sünnetleri iki rekâttır?

- A) Akşam - Sabah
- B) İkinci - Öğle
- C) Akşam - İkinci
- D) Yatsı - Sabah

15. Allah'ın var olmak için başka bir varlığa ihtiyacının olmadığını ifade eden sıfatı aşağıdakilerden hangisidir?

- A) Kıdem
- B) Vahdaniyet
- C) Kıyam bi nefsihi
- D) Muhalefetün lil havadis

16. Hac yasaklarının başladığını temsil eder. Kadınlar için kendi günlük elbiselerinden, erkekler için izar ve rida adı verilen iki parçadan oluşmaktadır.

Hakkında bilgi verilen ibadet aşağıdakilerden hangisidir?

- A) Say yapmak
- B) İhrama girmek
- C) Vakfe yapmak
- D) İtikâfa girmek

17. Aşağıdakilerden hangisi İslamiyet'e ait bir anlayış değildir?

- A) Her çocuk günahsız ve hür doğar.
- B) Kimsenin kimseye bir üstünlüğü yoktur.
- C) Allah ile kul arasında aracı bir sınıf reddedilmiştir.
- D) Arap toplumu için gönderilmiş milli bir dindir.

18. Aşağıdakilerden hangisi namazın sünnetleri arasındadır?

- A) Kılınacak namaza niyet edilmesi
- B) Namazda sübhaneke duasının okunması
- C) Namaz kılan kişinin elbisesinin temiz olması
- D) Namazda ayaktaiken Kur'an-ı Kerim'den bir bölüm okunması

19. Allah'ın varlığını ve birliğini ifade eden kavram aşağıdakilerden hangisidir?

- A) Kelime-i tevhit
- B) Besmele
- C) Salavat
- D) Mevlit

20. Aşağıdakilerden hangisi zekâtla ilgili yanlış bir bilgidir?

- A) Medine Dönemi'nde farz kılınmıştır.
- B) Kişi zekâtını anne ve babasına veremez.
- C) Sözlükte "çoğalmak, temizlik, bereket" gibi anlamlara gelir.
- D) Zekâtı verilecek malın üstünden iki yıl geçmesi gerekir.

1. Para, fon ya da sermaye, aşağıdaki kavramlardan hangisi ile ifade edilir?

- A) Finans
- B) Finansman
- C) Finansal yönetim
- D) Finansman fonksiyonu

2. Neo-Klasik Yönetim Teorisi, aşağıda verilen kavramlardan hangisi üzerinde durmaz?

- A) Tatmin
- B) Motivasyon
- C) Hiyerarşik yapı
- D) Kararlara katılma

3. İşletme amaçlarının gerçekleştirilebilmesi için, işletmenin tüm birimlerinin ve çalışanların uyum içinde hareket etmesinin sağlanması, yönetim fonksiyonlarından hangisi ile ilgilidir?

- A) Denetim
- B) Yürütme
- C) Koordinasyon
- D) Organizasyon

4. Planlamanın işletmeye sağlayacağı faydalar düşünüldüğünde, aşağıdakilerden hangisi uygun bir açıklama değildir?

- A) İşletmenin etkin bir denetimden korunmasını sağlar.
- B) İşletme kaynaklarının verimli kullanılmasını sağlar.
- C) Yöneticilere geleceği tahmin etme yeteneği kazandırır.
- D) İşletmenin bölümleri arasındaki koordinasyonu sağlar.

5. Aşağıdakilerden hangisi yönetimin özelliklerine uygun bir açıklamadır?

- A) Yönetim tek kişi faaliyetidir.
- B) Yönetim bir yetki faaliyetidir
- C) Yönetim tek yönlü bir faaliyettir.
- D) Yönetilenlerin karar verdiği bir süreçtir.

6. Bir işletmenin öz kaynaklarına yönelik yapılan açıklamalardan hangisi doğru değildir?

- A) Devamlı bir kaynak niteliği taşır.
- B) Ortaklarca konan fonlar öz kaynaklardır.
- C) Bu kaynaklar, vadeli kaynaklardır.
- D) Maddi olmayan kaynaklar şeklinde de olabilir.

1. OTURUM

7. Bir tüketicinin çay demlemek üzere çayı marketten satın alması, pazarlamanın faydalarından hangisi ile açıklanabilir?

- A) Yer faydası
- B) Şekil faydası
- C) Zaman faydası
- D) Mülkiyet faydası

8. Reklamın özelliklerine yönelik yapılan açıklamalardan hangisi **yanlıştır**?

- A) Reklam yapan kişi bellidir.
- B) Reklam kişisel bir sunuştur.
- C) Reklam için bir bedel ödenir.
- D) Reklam bir kitle iletişimdir.

9. Bazı işletmelerin, toptancı yerine acente veya komisyoncu vasıtasıyla perakendecilere, özellikle büyük perakendecilere ulaşmayı tercih etmeleri, hangi dağıtım kanalını kullanacaklarını göstermektedir?

- A) Üretici – Acente – Perakendeci – Tüketicisi
- B) Üretici – Toptancı – Perakendeci – Tüketicisi
- C) Üretici – Acente – Toptancı – Tüketicisi
- D) Üretici – Toptancı – Acente – Tüketicisi

10. Bir işletme ürünlerini tüketicilere doğrudan dağıtım yoluyla ulaştırıyorsa aşağıdakilerden hangisi oluşmuş olan uygun şartlardan birisidir?

- A) Üretim hızının tüketim hızından fazla olması
- B) Tüketicisi ya da müşteri sayısının fazla olması
- C) Birim fiyatının yüksek olması
- D) Üretim - tüketim noktaları arası mesafenin uzak olması

11. Bir işletmenin yetersiz stok bulundurmasının ya da gereğinden fazla stok bulundurmasının işletmeye en olumsuz yansımaları aşağıdakilerden hangisidir?

- A) İşletmenin kârlılığı azalır.
- B) Stok riskleri ortaya çıkabilir.
- C) Stok bulundurma gideri artar.
- D) Müşteri taleplerini karşılayamaz.

12. Bir işletme, bir yıl içinde üretimde kullanılan değerlerin toplam değer içindeki nisbi önemini stok kontrolünde bir yöntem olarak kullanıyorsa aşağıda verilen yöntemlerden hangisini kullanmış olur?

- A) ABC yöntemi
- B) Sabit sipariş süresi yöntemi
- C) Sabit sipariş miktarı yöntemi
- D) Stoksuz malzeme yönetim sistemi

13. Aşağıdakilerden hangisi yönetimin özellikleri ile ilgili yanlış bir ifadedir?

- A) Yönetim, bir karar verme sürecidir.
- B) Yönetim bir yetki faaliyetidir.
- C) Yönetim tek yönlü bir faaliyettir.
- D) Yönetim verimliliği temel alır.

14. İşletmenin niteliğine uygun personel seçimi için aşağıda verilenlerden öncelikli olarak hangisinin yapılması gerekir?

- A) İşin profilinin çıkarılması
- B) İş gereklilerinin hazırlanması
- C) İş için uygun personel kriterlerinin belirlenmesi
- D) Personel ihtiyacı olan işlerin belirlenmesi

15. Türkiye İş Kurumunun, iş gücünün istihdam edilebilirliğini artırmaya yönelik yürüttüğü faaliyet hangisidir?

- A) İş gücü yetiştirmek
- B) İş gücü ihtiyaç analizleri yapmak
- C) İş gücü arz ve talebini belirlemek
- D) İş ve meslek analizleri yapmak

16. Hizmet içi eğitimi kapsamında işletme personeline yönelik düzenlenen iş başı eğitimin avantajları ile ilgili yanlış bir açıklama hangi seçenekte yapılmıştır?

- A) Kısa süreli ve maliyeti azdır.
- B) Öğrenilenler hemen uygulanır.
- C) Yapılan hatalar zamanla düzeltilir.
- D) İş gücü kaybı söz konusu değildir.

17. İşletmeler faaliyetlerini yürütürken çevrenin korunmasına yönelik alacağı tedbirlerden birisi aşağıdakilerden hangisi **olamaz**?

- A) Tesis kurulduktan sonra çevre sorunları dikkate alınmalıdır.
- B) Üretimde yenilenebilir kaynaklar kullanılmalıdır.
- C) Atıkların geri dönüşümü sağlanmalıdır.
- D) Üretim yapan fabrika bacalarına filtre takılmalıdır.

18. İşletmeler çalışanların ücretlerini belirlerken dikkate alacağı unsurlardan en önemlisi hangisidir?

- A) Çalışana ücret konusunda bilgi verilmeli
- B) Eşit işe eşit ücret verilmeli
- C) Ücretlendirme konusunda objektif olunmalı
- D) Yaşam düzeyini yükseltecek ölçüde olmalı

19. Çalışanın herhangi bir sebepten dolayı işletmeden ayrılması durumunda işletme tarafından ödenecek zorunlu olan tazminatı alabilmesi için o işletmede tam olarak kaç ay süreyle çalışmış olması gerekir?

- A) 3
- B) 6
- C) 9
- D) 12

20. İşçi ile işveren arasında kurulan ilişki aşağıdakilerden hangisidir?

- A) Yönetim ilişkisi
- B) İşveren ilişkisi
- C) İşçi ilişkisi
- D) İş ilişkisi

(479) MANTIK – 2

1. Herhangi bir önermede yüklem sadece bir ada yüklenirse "birli yüklem" adını alır.

Aşağıdakilerden hangisi birli yüklemli bir önermedir?

- A) Ankara, Eskişehir ile Kırıkkale arasındadır.
- B) Ali, Ayşe ve Ahmet kardeşlerdir.
- C) Psikoloji bilimdir.
- D) $3 > 4$

2. "Çalışkansa başarılı." önermesinin sembolleştirilmiş hali aşağıdakilerden hangisidir?

- A) $(p \Rightarrow q)$
- B) $(p \Leftrightarrow q)$
- C) $(p \vee q)$
- D) $(p \wedge q)$

3. Tümel evetleme önerme eklemine sembolü aşağıdakilerden hangisidir?

- A) \sim
- B) \vee
- C) \wedge
- D) \Rightarrow

1. OTURUM

4. I. p
II. q
III. $\sim p$
IV. $q \Rightarrow r$

Yukarıdakilerden hangileri basit önermedir?

- A) I ve II. B) I ve III.
C) II ve IV. D) III ve IV.

5. Bir bileşik önermede, önermenin tümünü etkileyen ekleme "ana eklem" denir.

Bu tanıma göre, $[(p \wedge q) \vee (p \vee q \Rightarrow r)]$ önermesinin ana eklemi aşağıdakilerden hangisidir?

- A) \wedge B) \vee C) \Rightarrow D) \Leftrightarrow

I. Önerme	II. Önerme	III. Önerme	IV. Önerme
D	D	Y	Y
D	Y	D	Y

Yukarıda doğruluk değerleri verilen numaralandırılmış önermelerden hangisi tutarsızdır?

- A) I numaralı önerme
B) II numaralı önerme
C) III numaralı önerme
D) IV numaralı önerme

7. Niceleme mantığındaki tümel ve tikel niceleyicilerin sembolleri aşağıdakilerin hangisinde birlikte verilmiştir?

- A) \forall, \exists B) \exists, \square
C) \forall, \Rightarrow D) \exists, \diamond

8. Aşağıdaki önermelerden hangisi geçerlidir?

A)	B)	C)	D)
I. önerme	II. önerme	III. önerme	IV. önerme
D	D	D	D
Y	D	D	Y
Y	D	D	D
D	D	Y	D

9. İki değerli mantığa göre (p) önermesi doğru ise, ($\sim p$) önermesinin doğruluk değeri aşağıdakilerden hangisidir?

- A) Zorunlu B) Doğru
C) Yanlış D) Belirsiz

10. Aşağıdaki mantık sistemlerinden hangisi önermelerin "doğru", "yanlış" dışında üçüncü bir değere sahip olabileceğini gösterir?

- A) Klasik mantık
B) Kiplik mantığı
C) İki değerli mantık
D) Çok değerli mantık

11. $(p \Rightarrow q)$ önermesinin De Morgan Kuralları'na göre eş değeri aşağıdakilerden hangisidir?

- A) $\sim p \vee q$ B) $p \wedge q$
C) $\sim p \wedge \sim q$ D) $\sim p \vee \sim q$

12. " $\forall x (x \text{ çiçektir.})$ " açık önermesi aşağıdaki evrenlerden hangisinde doğrudur?

- A) $E = \{\text{Ayşe, Elif, Banu}\}$
B) $E = \{\text{tavşan, köpek, kedi}\}$
C) $E = \{\text{taş, demir, gümüş}\}$
D) $E = \{\text{gül, papatya, menekşe}\}$

13. Aşağıdakilerden hangisi kiplik değişmezlerinden biri olan "zorunlu" eklemının sembolüdür?

- A) \diamond B) \vee C) \square D) \sim

14. Aşağıdakilerden hangisi açık önermedir?

- A) $5+5=10$
B) x çift sayıdır.
C) Ali öğretmendir.
D) Tüm kelebekler kanatlıdır.

15. "Handan doktordur." önermesinin niceleme mantığındaki sembolik ifadesi aşağıdakilerden hangisidir?

- A) Fa B) $\sim Fa$
C) Fab D) Fabc

16. "Kaf dağı vardır." önermesinin varlık mantığındaki sembolleştirilmiş hâli aşağıdakilerden hangisidir?

- A) Fa B) $E!a$
C) $p \vee q$ D) $Fa \Rightarrow Fb$

17. İki ya da daha çok kişinin belli bir konuda farklı görüşler ileri sürerek birbirlerini eleştirmeleri aşağıdaki hangi kavramla ifade edilir?

- A) Mantık B) Teorem
C) Aksiyom D) Tartışma

18. Bilim felsefesinin konusu aşağıdakilerden hangisidir?

- A) Doğa B) Bilim
C) Ahlak D) Mantık

19. I. Bilgisayar kullanımı
II. Matematikteki ispat işlemleri
III. Eleştirel düşünme ve akılcı tartışma

Yukarıdakilerden hangileri mantığın uygulandığı alanlar arasında yer alır?

- A) I ve II. B) I ve III.
C) II ve III. D) I, II ve III.

20. Aşağıdakilerden hangisi aklın özelden genele doğru izlediği yol biçiminde tanımlanır?

- A) Varsayımlı dedüktif yöntem
B) Tümdengelim
C) Tümevarım
D) Analoji

(484) SAĞLIK BİLGİSİ – 2

1. Aşağıdakilerden hangisi güçlü ve sağlıklı ailelerin en önemli özelliklerindedir?

- A) İmalarda bulunmaları
B) Birbirlerine kötü söz sarf etmeleri
C) Karşısındaki kişiliğine saldırmaları
D) Birbirleriyle doğrudan iletişime geçmeleri

2. Aşağıdakilerden hangisi evlat edinebilmek için ailelerde aranan koşullardan biri değildir?

- A) Evlat edinenin en az ilköğretim mezunu olması
B) Evlat edinecek kişinin, yüz kızartıcı bir suçtan ceza almamış olması
C) Evlat edinecek çocuk ile evlat edinecek kişi arasında en fazla 10 yaş farkın olması
D) Sosyal ilişkiler açısından toplum norm ve değerlerine aykırı düşmeyecek özellikler taşıması

1. OTURUM

3. Artık çocuk istemeyen çiftlerde, kadınların yumurtalık kanallarının ameliyatla bağlanmasına ne ad verilir?

- A) Dyafram
- B) Vazektomi
- C) Rahim içi araç
- D) Tüp ligasyonu

4. Anne baba tarafından istenmeyen gebeliklerin hekimler tarafından sonlandırılması yasal olarak gebeliğin kaçınıcı haftasına kadar mümkündür?

- A) 10. B) 15. C) 20. D) 25.

5. I. Kan hacminin artması
II. Artan demir gereksiniminin karşılanması
III. Besinlerle alınan demirin vücutta kullanımının düşük olması

Yukarıdakilerden hangileri gebelik döneminde görülen kansızlığın başlıca nedenlerindendir?

- A) I ve II. B) I ve III.
- C) II ve III. D) I, II ve III.

6. Aşağıdaki vitaminlerden hangisinin kaynağı güneş ışınlarıdır?

- A) A vitamini B) C vitamini
- C) D vitamini D) E vitamini

7. I. Kan basıncını yükseltir.
II. İri bebek doğmasına neden olur.
Gebelik süresince görülen diyabetle ilgili verilenler için ne söylenebilir?

- A) I. doğru, II. yanlış
- B) I. yanlış, II. doğru
- C) Her ikisi de doğru
- D) Her ikisi de yanlış

8. Aşağıdakilerden hangisi doğum sonrasındaki annenin beslenmesinde uygun olmayan davranışlardandır?

- A) Acılı, ekşili, baharatlı ve gaz yapıcı gıdaların sütle bebeğe geçeceğini düşünerek dikkatli olması
- B) Unlu, yağlı ve kızartma türü besinleri tercih etmesi
- C) Sigara, alkol gibi maddeleri kullanmaması
- D) Çay ve kahve tüketmekten kaçınması

9. Aşağıdakilerden hangisi, iki yıldan kısa aralıklarla ve çok sayıda yapılan doğumların anne, çocuk ve toplum sağlığı üzerindeki etkilerindendir?

- A) Annenin ruh sağlığında bozulmaya yol açması
- B) Annede beslenme bozukluklarını önlemesi
- C) Toplumda, hasta anne ve çocuk sayısını azaltması
- D) İstenmeyen gebelikleri sonlandırmaya yönelik olarak düşük ve kürtaj sayısını azaltması

10. Aşılar ile ilgili olarak verilenlerden hangisi yanlıştır?

- A) Aşılama sonrasında vücut bağışıklık kazanır.
- B) Bağışıklık kazanmanın tek yolu, aşılamaştır.
- C) Hastalığın ölü ya da zayıflatılmış mikrobuyla veya bunun toksiniyle hazırlanır.
- D) Aşısı yapılan hastalık etkiyle karşılaşta onu tanıyarak hastalık yapmasını engeller.

11. Kanser belirtilerinden herhangi biri hissedildiğinde, zaman kaybedilmeden hekime başvurmak şarttır. Hiç rahatsızlık duyulmasa bile yılda bir kez mutlaka genel kontrolden geçilmelidir.

Buna göre verilenlerden hangisi kanserde erken tanının önemini artıran sebeplerdendir?

- A) Sakatlık bırakması
- B) Tedaviyi zorlaştırması
- C) Tedavi şansını artırması
- D) Doku ve organ kaybına sebep olması

12. Aşağıdakilerden hangisi kanserden korunmaya yönelik olarak alınması gereken önlemlerdendir?

- A) Günlük 25-30 gram posa tüketilmesi
- B) Doymamış yağ asidi içeren yağlardan kaçınılması
- C) Doğal besinler yerine, kimyasal koruyuculu hazır yiyeceklerle beslenmenin tercih edilmesi
- D) Yiyecekleri hazırlarken ızgara, fırında buğulama, haşlama gibi pişirme yöntemlerinin kullanılması

13. Aşağıdakilerden hangisi şeker (diyabet) hastalarının uymaları gereken kurallardandır?

- A) Egzersiz yapmaktan kaçınmak
- B) 2 yılda bir diş muayenesi yaptırmak
- C) Şeker takibini düzenli olarak yapmak
- D) Ayağı sıkı ayakkabılar tercih etmek

14. "Çoğunlukla genetik geçiş gösteren, vücutta kanın pıhtılaşma sisteminde rol alan faktör 8 ve 9 pıhtılaşma faktörlerinin eksikliği veya yokluğu nedeniyle ortaya çıkan ve pıhtılaşma bozukluğu oluşturan bir kan hastalığıdır."

Yukarıdaki açıklama hangi kan hastalığına aittir?

- A) Kolera B) Bronşit
- C) Kızamık D) Hemofili

15. Bir mikroorganizmanın herhangi bir yolla insan veya hayvan vücuduna girip yerleşerek çoğalmasına ne ad verilir?

- A) Ultrason
- B) Enfeksiyon
- C) Pastörizasyon
- D) Dehidratasyon

16. Sıtma hastalığı, aşağıdaki vektörlerden hangisiyle sağlam kişilere bulaşır?

- A) Bit B) Pire
- C) Kene D) Sivrisinek

17. Aşağıdakilerden hangisi su ve besinlerle bulaşan hastalıkların önlenmesi için yapılması gereken uygulamalardandır?

- A) Açık gübreliklerin yapılması
- B) Sağıksız tuvaletlerin inşa edilmesi
- C) Kişisel temizlik alışkanlığının sağlanması
- D) Kanalizasyon sisteminin iyi olmadığı yerlerde suların kaynatılmadan kullanılması

18. Aşağıdakilerden hangisi solunum yoluyla bulaşan hastalıkların genel özelliklerinden biri değildir?

- A) Mevsimlik özellik göstermesi
- B) Aşılama ile koruma sağlanmaktan kaçınılması
- C) Kolay bulaşabilen hastalıklar olması
- D) Solunum yoluyla insanlara geçmesi

1. OTURUM

19. I. Sağlık personelleri
II. Uyuşturucu bağımlıları
III. Kan ürünleri kullanması gerekenler
Yukarıdakilerden hangileri AIDS'in bulaşma riskinin en yüksek olduğu gruplardandır?

A) I ve II. B) I ve III.
C) II ve III. D) I, II ve III.

20. Aşağıdakilerden hangisi evde hasta bakımında yapılması gereken uygulamalardandır?

A) Hastaya ait atıkların kurallara uygun şekilde imha edilmesi
B) Solunum güçlüğü çeken hastanın baş tarafının alçakta tutulması
C) Hastanın oda ısısının, 25 derecenin üzerinde olacak şekilde ayarlanması
D) Hastaya fayda sağlayabilecek ilaçların hekime sorulmadan belirlenip verilmesi

(491) TRAF. VE İLK YARD. – 1

1. Yasal koşulların belirlediği trafik ölçütlerini kişinin yaşantısı sırasında doğal davranışlar şekline dönüştürebilmek, kişilerin can ve mal güvenliğini sağlamak için yapılması gereken çalışmaların tümüne - - - - denir.

Bu ifadede boş bırakılan yere aşağıdakilerden hangisi yazılmalıdır?

A) sürücü kursu
B) trafik eğitimi
C) trafik kuralları
D) trafik işaretleri

2. Aşağıdakilerden hangisi sürücülerin uyması gereken kurallardandır?

A) İniş eğimli yolda vitesi boşa almak
B) Otoyola girince hemen sol şeride geçmek
C) Bölünmüş kara yolunda, karşı yöndeki trafik için ayrılan yol bölümüne girmek
D) Aksine bir işaret yoksa daralan yol kesimlerinde, yüklü araçlara geçiş kolaylığı sağlamak

3. • Su ve çamur sıçratmak
• Korkutmak veya şaşırtmak
• Sigara külü veya izmaritlerini yola atmak

Yukarıdaki davranışları yapan sürücü için hangisi söylenebilir?

A) Saygısız B) Sabırlı
C) Tedbirli D) Hoşgörülü

4. Egzoz emisyon ölçümünün yapılması, araçların çevreye verdiği zararlardan hangisini önlemeye yönelik bir çalışmadır?

A) Su kirliliğini
B) Gürültü kirliliğini
C) Hava kirliliğini
D) Görüntü kirliliğini

5. "Trafik kazalarının % 99'u insan faktöründen kaynaklanmaktadır."

Buna göre aşağıdakilerden hangisi trafik kazalarında insan faktörünün etkisini azaltan davranışlardan biri değildir?

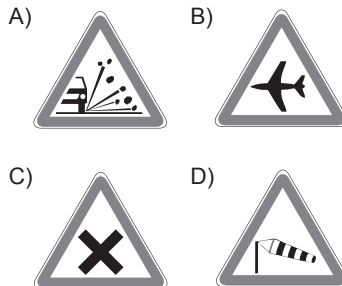
A) Trafikte bireyin kendine aşırı güven duyması
B) Hoşgörülü ve sabırlı bir tutum içinde olunması
C) Trafik kurallarına uymanın alışkanlık hâline getirilmesi
D) Sürücü ve yayaların, yolun kendilerine ait olan kısmını kullanması

6. Aşağıdakilerden hangisi otoyolda yapılabilecek davranışlardandır?

A) Geri gitmek
B) Geriye dönmek
C) Zorunluluk dışında park etmek
D) Hızına uygun şeritte gitmek

7. "Trafik kazalarında insan, araç, yol ve iklim koşulları etkili olmaktadır."

Buna göre aşağıdaki trafik işaretlerinden hangisi yoldan kaynaklanan bir tehlike olduğunu belirtmektedir?



8. Işıklı trafik cihazları ve trafik işaret levhalarına verilen zararlar kim tarafından karşılanır?

A) İlgili belediyeler
B) Sorumlu kişiler
C) Emniyet Genel Müdürlüğü
D) Kara Yolları Genel Müdürlüğü

9. Aşağıdakilerden hangisi araçlarda kullanılan emniyet kemerinin işlevlerinden biri değildir?

A) Ölüm ve yaralanmaları azaltması
B) Araçtan dışarı fırlamaları önlemesi
C) Trafik kazalarını önlemek için kullanılması
D) Çarpma anında oluşabilecek etkileri, vücudun daha güçlü bölgelerine yönlendirmesi

10. Aşağıdakilerden hangisi trafik kazalarının ülke ekonomisine verdiği, bedeli maddi olarak ölçülemeyen zararlardandır?

A) Kara yollarının yıpranması
B) Araçların hurdaya ayrılması
C) Trafik işaret ve levhalarının zarar görmesi
D) Ölüm ve yaralanma sonucunda insan gücü kaybının olması

11. I. Otomobil
II. Kamyonet
III. Her çeşit arazi taşıtı
IV. Ayakta yolcu taşıyan otobüsler
Yukarıdaki taşıtlardan hangilerinin bütün koltuklarında emniyet kemeri bulundurulması ve kullanılması zorunludur?

A) I ve II. B) III ve IV.
C) I, II ve III. D) I, II, III ve IV.

12. Aşağıdakilerden hangisi öndeki araç geçilirken uyulması gereken kurallardan biri değildir?


A) Başka bir sürücünün kendisini geçmeye başlamamış olması
B) Öndeki aracın sağından veya banket kullanılarak geçilmesi
C) Sol dönüş lambası ile işaret verilmesi
D) İlerisinin görüşe açık ve boş olması

1. OTURUM

13. Sürücülerin kara yollarında aşağıdakilerden hangisini yapması yasaktır?

- A) Hızlarını, kullandıkları aracın yük ve teknik şartlarına uydurmaları
- B) Kavşaklara ve yaya geçitlerine yaklaşırken hızlarını azaltmaları
- C) Öndeki araçla aralarında güvenli bir mesafe bırakmaları
- D) Gereksiz ve ani yavaşlamalar yapmaları

14.



Şekildeki gibi bir karşılaşmada ilk geçiş hakkını hangisi kullanmalıdır?

- A) Yaya
- B) Traktör
- C) Otomobil
- D) Motosiklet

15. Aşağıdakilerden hangisi sürücünün durmasını gerektiren durumlardan biri değildir?

- A) Kırmızı ışığın yanması
- B) Yolun trafiğe kapanması
- C) Trafik görevlisinin dur işareti vermesi
- D) Öndeki araç sürücüsünün hızını azaltması

16. Yaya yolu bulunmayan yollarda geceleyin yürümek zorunda kalan yayaların, aşağıdakilerden hangisini yapması durumunda trafik açısından tehlikeli bir durum oluşur?

- A) Işık taşıması
- B) Koyu renk elbise giymesi
- C) Üzerinde yansıtıcı aksesuar bulundurması
- D) İki yönlü yollarda gidişlerine göre taşıt yolunun sol kenarından yürümesi

17. Taşıt sürücüsü; yaya, okul ve demir yolu geçitlerine yaklaşırken aşağıdakilerden hangisini yapmalıdır?

- A) Önde yavaş giden araç varsa geçmeli
- B) Bu geçitlere yaklaştığında şerit değiştirmeli
- C) Okul geçidi görevlisinin işaret ve talimatlarına uymalı
- D) Demir yolu geçidine gelmeden bariyer inmeye başlamışsa geçmek için acele etmeli

18. Aşağıdakilerden hangisi trafik kazalarıyla ilgili olarak kazaya karışan kişilerin yükümlülüklerinden biri değildir?

- A) Maddi hasarlı kazalarda kaza tespit tutanağı düzenlemek
- B) Sorumluluğun belirlenmesine yarayacak izleri değiştirmek
- C) Kaza yerinde usulüne uygun ilk yardım tedbirlerini almak
- D) Yetkililerin istemesi hâlinde yaralıları en yakın sağlık kuruluşuna götürmek

19. Araçların ilk tescilinin yapılması için satın alma tarihinden itibaren kaç ay içinde trafik tescil kuruluşuna başvurulması zorunludur?

- A) 3
- B) 4
- C) 5
- D) 6

20. Kara Yolları Trafik Kanunu'na göre aşağıdakilerden hangisi sürücü adaylarında aranan şartlardandır?

- A) Boy
- B) Askerlik
- C) Öğrenim
- D) Göz rengi

(502) İNGİLİZCE – 8

1 - 20. sorularda boş bırakılan yere uygun gelen kelime ya da ifadeyi işaretleyiniz.

1. You pass your class - - - - you study regularly.

- A) if
- B) by
- C) to
- D) of

2. I didn't go to work yesterday - - - - I was ill.

- A) until
- B) after
- C) before
- D) because

3. We - - - - the high school by 2020.

- A) were finished
- B) were finishing
- C) will be finishing
- D) will have finished

4. If I - - - - strong, I would help you carry the piano.

- A) am
- B) were
- C) have
- D) be

5. I will run as fast - - - - I can.

- A) if
- B) so
- C) as
- D) to

6. If the weather had been nice, we - - - - on a picnic.

- A) would have gone
- B) will have gone
- C) have gone
- D) had gone

7. If you - - - - the iron, it - - - - .

- A) heat / expands
- B) heated / will expand
- C) heat / was expanding
- D) heated / is expanding

8. - - - - that I live alone, I must cook my own food.

- A) For
- B) Since
- C) Because
- D) Due to the fact

9. The weather was rainy - - - - I took my umbrella.

- A) but
- B) so
- C) yet
- D) in order to

10. We rushed out of the concert hall - - - - the concert finished.

- A) to
- B) while
- C) as soon as
- D) although

11. My parents - - - - married for 20 years by June 20th.

- A) will have been
- B) have been
- C) were
- D) are

1. OTURUM

12. Our car was - - - - by a thief.

- A) eaten
- B) stolen
- C) fallen
- D) spoken

13. Veysel will be - - - - as a doctor soon.

- A) work
- B) works
- C) working
- D) to work

14. My sister - - - - at that time, so you can call me.

- A) will be sleeping
- B) have slept
- C) sleep
- D) slept

15. Becky - - - - the cake by the time we arrive.

- A) make
- B) made
- C) will have made
- D) have been making

16. Credit cards have become a / an - - - - part of today's life.

- A) soft
- B) cheap
- C) difficult
- D) important

17. If you are sleepy in the afternoon, you - - - -.

- A) eats a lot of fast food
- B) can drink a cup of coffee
- C) had visited your grandparents
- D) has finished your homework on time

18. If you - - - -, you can eat more cake.

- A) had a mobile phone
- B) has a headache
- C) likes sleeping
- D) want

19. If the weather hadn't been bad, - - - -.

- A) we would have walked in the park
- B) he would pass his exams
- C) he will get a new job
- D) it has rained all day

20. - - - -, I would have fallen asleep.

- A) If you call me
- B) If I have to write a book
- C) If I had lain down on the sofa
- D) If he solves the problem easily

(502) ALMANCA – 8

1-17. sorularda boş bırakılan yere uygun gelen ek, kelime ya da ifadeyi işaretleyiniz.

1. Du - - - - im Winter kein Eis essen.

- A) darfst
- B) sollen
- C) kann
- D) möchten

2. Ali fragt, - - - - sie am Montag eine Prüfung schreiben.

- A) aber
- B) dass
- C) ob
- D) denn

3. A: Entschuldigung, wie kann ich - - - - Bahnhof gehen?

B: Gehen Sie geradeaus, nach der zweiten Kreuzung links. Der Bahnhof ist auf der rechten Seite.

- A) von
- B) zum
- C) ins
- D) auf

4. Einen Döner - - - -.

- A) gehen
- B) trinken
- C) schlafen
- D) essen


5. Kannst du uns ein Lied - - - -?

- A) essen
- B) singen
- C) laufen
- D) anziehen

6. - - - - ich fleißig gelernt hätte, - - - - ich die Prüfung bestehen.

- A) Wenn / könnte
- B) Habe / werde
- C) Will / kann
- D) Würde / hätte

7.



Wie spät ist es?
Es ist - - - - .

- A) zwanzig vor vierzehn
- B) zwanzig nach vier
- C) zwanzig nach zwei
- D) Viertel nach drei

8. A: Hallo Ahmet! - - - - ?
B: Eine Limonade.

- A) Wann machst du
- B) Wie geht es dir
- C) Woher kommst du
- D) Was trinkst du

9. Sie - - - - nach der Schule in die Bibliothek gehen.

- A) wird
- B) sind
- C) hat
- D) geht

10. Die Frau, - - - -aus dem Restaurant kommt, ist unsere Nachbarin.

- A) der
- B) die
- C) das
- D) dem

11. Sollen wir Hasan - - - - Ayşe besuchen?

- A) aber
- B) weil
- C) oder
- D) denn

12. A: Wie - - - - ich Deutsch lernen?
B. Gehen Sie in ein Deutschkurs.

- A) ist
- B) wird
- C) habe
- D) kann

13. Die Familie Schumacher lebt - - - - 2 Jahren in Ankara.

- A) bis
- B) um
- C) von
- D) seit

14. Mein Bruder - - - - nicht studieren.

- A) will
- B) ist
- C) sind
- D) hat

15. Einen Brief - - - -.

- A) schreibe
- B) schreiben
- C) schreibst
- D) schreibt

1. OTURUM

16. A: Mit - - - - willst du für die Prüfung lernen?

B: Mit Osman.

- A) wer B) wen
C) wem D) was

17. Sinop ist - - - - Stadt an der Schwarzmeerküste.

- A) eine B) ein
C) eins D) einen

18.



Was ist das?

- A) Ein Fluss B) Ein Baum
C) Ein See D) Ein Berg

19. "Frau Ekin kocht in der Küche." cümlesinin Türkçe karşılığı aşağıdakilerden hangisidir?

- A) Bayan Ekin mutfakta yemek yiyor.
B) Bayan Ekin mutfakta yemek yapıyor.
C) Bayan Ekin mutfakta yemek yaptı.
D) Bayan Ekin mutfakta yemek yapmak istiyor.

20. "fleißig" kelimesinin zıt anlamlısı aşağıdakilerden hangisidir?

- A) lang B) teuer
C) faul D) viel

(502) FRANSIZCA – 8

1-18. sorularda boş bırakılan yere uygun gelen kelime ya da ifadeyi işaretleyiniz.

1. - - - - n'a rien mangé.

- A) Tu B) Elle
C) Nous D) Vous

2. - - - - -toi chaudement car il fait froid.

- A) Lavez B) Levez
C) Tais D) Habille

3. Ce soir, on va au cinéma. N'oublie pas de (d') - - - - quatre tickets.

- A) acheter B) habiter
C) voir D) respecter

4. Dépêche-toi ! Le musée - - - - à midi le dimanche.

- A) fait B) veut
C) dort D) ferme

5. J'ai vu deux fois le film Titanic - - - - je trouve super.

- A) qui B) dont
C) où D) que

6. A : Qu'est-ce que tu prends comme boisson ?

B : Je prends - - - - .

- A) de la salade
B) de l'eau gazeuse
C) de la tarte aux fraises
D) des frites

7. A : Deniz téléphone à - - - - ?

B : Oui, elle lui téléphone souvent.

- A) son père
B) tes cousins
C) ses parents
D) leurs enfants

8. A : Et toi, tu ne manges pas de poisson ?

B : Si, mais je peux - - - - manger une fois par semaine.

- A) les B) en
C) leur D) y

9. Les chinois mangent 53 kilos de riz - - - - personne - - - - an.

- A) en / dans B) par / par
C) dans / en D) en / en

10. Jean n'est jamais allé à Paris mais son oncle - - - - habite.

- A) par B) en
C) y D) le

11. Quand un animal est malade, ce n'est pas le médecin qui s'en occupe, c'est moi. Je suis - - - - .

- A) coiffeur
B) photographe
C) pompier
D) vétérinaire

12. Feyza a cassé les verres - - - - sa maladresse.

- A) à cause de B) grâce à
C) parce que D) pourquoi

13. Pour maigrir, il faut - - - - .

- A) prendre des kilos
B) manger des gâteaux
C) faire du sport
D) manger beaucoup

14. - - - - nous irons en Egypte.

- A) Avant-hier
B) L'année prochaine
C) Le mois dernier
D) Hier

15. A : Tu viens à ma petite fête ?

B : - - - - .

- A) Si je vais mieux, je veux venir
B) Si j'ai faim, je mange du chocolat
C) Si j'ai soif, je veux boire du lait
D) S'il y a un bon film, je veux aller

16. Sylvie n'a pas fait ses devoirs, car - - - - un dessin animé à la télé.

- A) il faisait chaud
B) c'était
C) il pleuvait
D) il y avait

17. Sophie : Marc, je n'ai plus de fromage blanc, tu peux aller - - - - ?

Marc : D'accord, il faut autre chose ?

Sophie : Oui, du sucre pour le gâteau.

- A) au supermarché
B) à la pharmacie
C) au centre culturel
D) à la mairie

1. OTURUM

18. Tu peux conduire mais il faut être - - - - .

- A) gras B) distraite
C) attentif D) marron

19-20. sorularda verilen resme göre cümlede boş bırakılan kısmı tamamlayan sözcük ya da ifadenin bulunduğu seçeneği işaretleyiniz.

19.



M. Dupont est - - - - qui a cinq petits fils.

- A) un vieil homme
B) une jeune femme
C) une vieille femme
D) un jeune homme

20.



Quand il fait beau, - - - - .

- A) ils vont à la chasse avec des chats
B) elle promène son chien dans le parc
C) il va à la chasse avec son chien
D) ils se promènent toujours dans le parc

(511) FIKIH – 1

1. Fıkıh ilmi ile uğraşan, Kur'an ve sünnet gibi delillerden dini hükümler ortaya koyabilme bilgi ve becerisine sahip olan kimseye ne ad verilir?

- A) Mütefekkir B) Müçtehit
C) Muhaddis D) Müfessir

2. Fıkıhın aşağıdaki tanımlarından hangisi Ebu Hanife'ye aittir?

- A) Kişinin lehinde ve aleyhinde olanı bilmesidir.
B) Din ve Kur'an konularında bilgi sahibi olmaktır.
C) Bir şeyin tamamına vakıf olmak, deliliyle bilmektir.
D) Müçtehitlerin tafsili şer'î delillerden istinbat ettiği hükümlerdir.

3. Bir mazerete binaen, özel ve geçici olmak üzere konulmuş hükümlere ne denir?

- A) Vaz'i hükümler
B) Azimet
C) Teklifi hükümler
D) Ruhsat

4. Aşağıdakilerden hangisi içtihadın aşamalarından biri değildir?

- A) Zorlaştırıcı olmak
B) Sorunu tespit etmek
C) Kaynaklara başvurmak
D) Hüküm vermek

5. Miras ve vasiyet ile ilgili hükümler hangi başlık altında toplanmıştır?

- A) Münakehat B) Muamelat
C) Ukubat D) Feraiz

6. Fıkıh usulü alanında yazılmış ilk eser "er-Risale" kim tarafından yazılmıştır?

- A) Ebu Hanife B) İmam Şafii
C) Serahsi D) Gazzali

7. Aşağıdakilerden hangisi fıkıhın temel ilkelerinden değildir?

- A) Kamu yararının gözetilmesi
B) Mükellefiyette kolaylık
C) Haramlarda genişlik
D) Hükümlerde tedricilik

8. Aşağıdakilerin hangisi fıkıhın ilk örnekleri olarak kabul edilmektedir?

- A) Mezhepler dönemi
B) Hz. Peygamber dönemi
C) Tabiin dönemi
D) Sahabe dönemi

9. Aşağıdakilerin hangisinde sahabe döneminde ortaya çıkan fıkıh ekollerini bir arada verilmıştır?

- A) Eser-Şura B) Rey- Şura
C) Rey- Eser D) Kufe-Irak

10. Fıkıh görüşlerini "el-Muvatta" isimli eserinde toplayan mezhep imamı aşağıdakilerden hangisidir?

- A) Malik b. Enes
B) İdris eş-Şafii
C) Ahmet b. Hanbel
D) Ebu Hanife

11. Mecelle hangi mezhep esas alınarak düzenlenmiştir?

- A) Hanbeli B) Maliki
C) Hanefi D) Şafii

12. Namaz vakitlerinin belirlenmesi ve mirasın paylaşımı gibi konularda fıkıh ilmi aşağıdaki ilim dallarının hangisinden/hangilerinden faydalanmaktadır?

- A) Mantık ve Felsefe
B) Sosyoloji
C) Tarih
D) Matematik ve Coğrafya

13. Aşağıdakilerden hangisi Ebu Hanife'nin talebelerinden biri değildir?

- A) İmam Yusuf
B) İmam Muhammed
C) İmam Züfer
D) İmam İbn Teymiyye

14. Aşağıdakilerden hangisi fıkıh ilminde İcma'nın gerçekleşme şartlarından biridir?

- A) Bazı müçtehitlerin fikir birliği yapması yeterlidir.
B) Herhangi bir konuda da icma yapılabilir.
C) Hz. Peygamber'in vefatından sonra gerçekleşmiş olmalıdır.
D) Halkın bir konuda fikir birliği etmesi gerekir.

15. Aşağıda verilen mezhep ve mezhep imamı eşleştirmelerinden hangisi yanlıştır?

- A) Hanefilik - Numan bin Sabit
B) Malikiilik - Malik bin Enes
C) Şafiiilik - Muhammed bin İdris
D) Hanbelilik - Cafer-i Sadık

1. OTURUM

16. Aşağıdaki durumlardan hangisi "semavi arızalar" (insan iradesi dışında oluşan engeller) dan biri değildir?

- A) Çocukluk B) Unutkanlık
C) Cehalet D) Bayılma

17. Aşağıdakilerden hangisi mukayyet farzlardan (belli bir zamanı olan) biri değildir?

- A) Zekât B) Hac
C) Oruç D) Namaz

18. Aşağıdakilerden hangisi müctehitte bulunması gereken şartlardan biri değildir?

- A) İçinde yaşadığı toplumun şartlarını, örf, adet ve ihtiyaçlarını bilmelidir.
B) Doğru bir anlayış ve hüküm verme yeteneğine sahip olmalıdır.
C) Fıkıh ilminin tarihini ve nasih-men-suh hükümleri bilmelidir.
D) Sahabe veya tabiinden olması gerekir.

19. İctihatla ilgili aşağıda verilen bilgilerden hangisi yanlıştır?

- A) Fikhi düşüncede birer zenginliktir.
B) Geçmiş hükümleri taklit etmek esastır.
C) Eleştirel düşüncüyü geliştirir.
D) Dinin daha kolay yaşanmasını sağlar.

20. Cenaze namazı kılmanın hükmü nedir?

- A) Farz-ı Kifaye
B) Farz-ı Ayn
C) Vacip
D) Sünnet

(532) HZ. MUHAMMED'İN HAY. – 2

1. "Nefsim kudret elinde olan Allah'a yemin ederim ki, hiçbir kul kendisi için dilediğini komşusu için yahut din kardeşi için de dilemedikçe tam anlamıyla iman etmiş olmaz."

Bu hadiste vurgulanan asıl kavram aşağıdakilerden hangisidir?

- A) Vefa B) Sabır
C) Özgürlük D) Diğerkâmlık

2. Hangisi hukuk karşısında eşitlik anlayışına uygun bir davranıştır?

- A) Tarafsız olmak
B) Akrabaları kayırmak
C) Yalan şahitlik yapmak
D) Duygularla karar vermek

3. Peygamberimiz bulunduğu bir toplantıda ihtiyaç sahiplerine öncelik tanır, özellikle kimsesiz olanlara ayrı bir ilgi gösterirdi.

Hz. Muhammed (sav.) 'in bu davranışı hangi özelliği için bir örnek oluşturmaz?

- A) Adalet
B) Merhamet
C) Alçakgönüllülük
D) Danışarak iş yapma

4. ". . . Hiç kimsenin başkası üzerinde bir üstünlüğü yoktur."

Bu hadis aşağıdakilerden hangisine vurgu yapmaktadır?

- A) Özgürlük
B) Sorumluluk
C) Eşitlik
D) Alçakgönüllülük

5. • "Onlar, kendi canları çekmesine rağmen yemeği yoksula, yetime ve esire yedirirler."

(İnsan suresi, 8. ayet)

• "Eğer kalbinin yumuşamasını istiyorsan fakiri doyur, yetimin başını okşa!"

(Hadis-i şerif)

Bu ayet ve hadis aşağıdakilerden hangisini vurgulamaktadır?

- A) Çocuklara sevgi ve merhametle yaklaşılmalıdır.
B) Yetimler ve ihtiyaç sahipleri gözetilmelidir.
C) İnsanlara adaletle muamele edilmelidir.
D) Anne baba hakkına önem verilmelidir.

6. Aşağıdakilerden hangisi Hz. Peygamber için kullanılan "Ailesizlere aile" ifadesinin kapsamında değildir?

- A) Mağdur insanlara yardım etmesi
B) Öksüz ve yetimlere sahip çıkması
C) Fakir ve kimsesizlerle yakından ilgilenmesi
D) İlim öğrenmeye ve öğretmeye değer vermesi

7. Kültürümüzde "bir bilene sormak" veya "ehline sormak" gibi ifadelerin kullanılması toplumumuzda aşağıdakilerden hangisine önem verildiğini göstermektedir?

- A) Yardımlaşmaya
B) Hoşgörüyeye
C) İstişareye
D) Çalışmaya

8. İstişare edilecek kişilerde aşağıdaki özelliklerden hangisinin bulunmaması gerekir?

- A) Kendini üstün görmesi
B) Doğru ve güvenilir olması
C) Akıl ve tecrübe sahibi olması
D) İnsan psikolojisinden anlaması

9. Hangisi istişarenin sonuçları arasında yer almaz?

- A) Müminlerin uyumlu çalışmasını sağlar.
B) Asıl yapılması gereken işler birikir.
C) İnsanlar arasında muhabbet oluşturur.
D) İnsan daha paylaşımcı ve sosyal olur.

10. Kâbe'nin onarımı sırasında çıkan bir anlaşmazlıkta "Kâbe hakemliği" gibi önemli bir sorumluluğun Hz. Peygamber'e verilmiş olması onun hangi yönünü gösterir?

- A) Cesur bir kişi olduğunu
B) Mesleğini iyi yaptığını
C) Akrabalarıyla iyi geçindiğini
D) Adaletine güven duyulduğunu

11. Aşağıdakilerden hangisi istişare edilecek kimsede aranan bir özelliktir?

- A) Okur-yazar olması
B) Erkek olması
C) Güvenilir olması
D) Yaşça büyük olması

1. OTURUM

12. Hz. Muhammed (sav.) aşağıdaki olayların hangisinde istişare etmemiştir?

- A) Medine'yi savunmak için şehrin etrafına hendek kazılması
- B) Bedir Savaşı'nda ele geçirilen esirlerin durumu
- C) Uhud Savaşı'nın nasıl ve nerede yapılacağı
- D) Tebliğin açıktan yapılmaya başlanması

13. Hz. Muhammed (sav.) ev işlerinde aile bireylerinin görüşlerine değer verir, onların da fikirlerini alırdı.

Bu durum Hz. Peygamber'in hangi yönünü gösterir?

- A) İstişareye önem verdiğini
- B) İşlerini kendisinin yaptığını
- C) Liyakate önem verdiğini
- D) İkram etmeyi önemseydiğini

14. Aşağıdakilerden hangisi peygamber efendimizin eş seçiminde öne çıkardığı özelliktir?

- A) Soy
- B) Güzel ahlak
- C) Güzellik
- D) Zenginlik

15. "...Yetimlerin ihtiyacına koşan, Allah yolunda savaşa giden askerlerle, gündüz oruç tutup, geceyi ibadetle geçiren gibidir."

Bu hadiste aşağıdakilerden hangisinin önemi vurgulanmaktadır?

- A) Allah için savaşmak
- B) Yetime sahip çıkmak
- C) Oruç tutmanın önemi
- D) Gece ibadetinin değeri

16. Medineli Müslümanlara "Ensar" adı verilmesi, onların hangi özelliklerinin bir sonucudur?

- A) Muhacirlere yardımda bulunmaları
- B) Hz. Peygamber'e bağlılıkları
- C) Zulme engel olmaları
- D) Medineli olmaları

17. Aşağıda verilen bilgilerden hangisi yanlıştır?

- A) Hz. Peygamber amcasının oğlu Hz. Ali'nin bakımını üstlenmiştir.
- B) Fakir olan kimseler bakımını üstlendikleri yetimlerin mallarından meşru ölçüler içerisinde yiyebilirler.
- C) Kişi, akrabası olan yetimlerin nafakasını karşıladığında hem sadaka hem de akrabayı gözetme sevabı alır.
- D) Hz. Peygamber ilim ile uğraşan kimsenin evlenmekten uzak durması gerektiğini söylemiştir.

18. Ebu Zer ile Bilal-i Habeşi arasında bir tartışma yaşanmıştı. Ebu Zer Bilal'e "kara kadının oğlu" diyerek ithamda bulunmuştu. Peygamberimiz de Ebu Zer'e "Sende cahiliyye adetlerini görüyorum" diyerek uyardı. O da Bilal'den özür diledi.

Verilen metinden aşağıdakilerden hangisi çıkarılamaz?

- A) İslam ırk, soy üstünlüğünü reddetmiştir.
- B) Ebu Zer ve Bilal'i Habeşi ashabın fakirlerindedir.
- C) Müslüman hatasını fark ettiğinde özür dilemiştir.
- D) Küçümsemek Müslümana yakışır bir özellik değildir.

19. "Nikah benim sünnetimdir. Sünnetimden yüz çeviren benden değildir."

Bu hadisten aşağıdaki sonuçların hangisine ulaşılamaz?

- A) Boşanmak haramdır.
- B) Evlilik teşvik edilmelidir.
- C) Peygamber örnek alınmalıdır.
- D) Sünnetlere uyulmalıdır.

20. Aşağıdakilerden hangisi insanların fikir alışverişini ifade eden kavramlardan biri değildir?

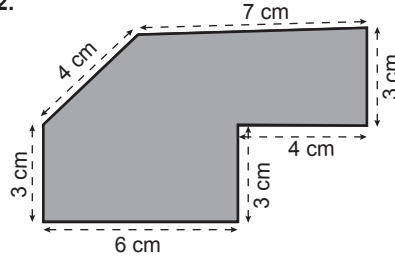
- A) İstişare
- B) Şûra
- C) İstihare
- D) Müşavere

(609) MATEMATİK – 6

1. Ölçeği $\frac{1}{100}$ olan bir planda 20 cm uzunluk gerçekte kaç metredir?

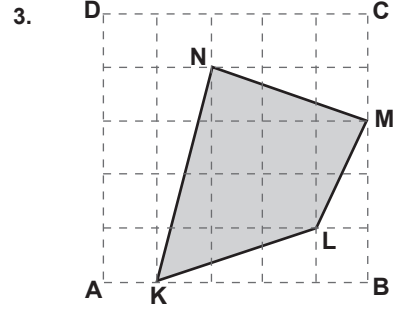
- A) 2
- B) 20
- C) 200
- D) 2000

2.



Şekilde ölçeği $\frac{1}{200}$ olan bir arsanın planı verilmiştir. Bu arsanın gerçek çevresi kaç metredir?

- A) 24
- B) 30
- C) 48
- D) 60



Şekildeki ABCD karesinin alanı 25 birimkaredir.

Buna göre A(KLMN) kaç birimkaredir?

- A) 7
- B) 8
- C) 9
- D) 10

4. Boyutları 5 cm, 6 cm, 10 cm olan dikdörtgenler prizmasının yüzey alanı kaç santimetrekaredir?

- A) 280
- B) 260
- C) 240
- D) 220

5. Kenar uzunlukları 4 m ve 5 m olan dikdörtgen şeklindeki kumaşın tamamı bir metrekairelik eş parçalara ayrılarak her bir parça 15 liraya satılacaktır.

Buna göre tüm kumaşın satışı sonucunda kaç lira elde edilir?

- A) 200
- B) 300
- C) 400
- D) 500

6. Taban ayrıtlarından birinin uzunluğu 8 cm ve yüksekliği 10 cm olan kare dik prizmanın yüzey alanı kaç santimetrekaredir?

- A) 320
- B) 384
- C) 416
- D) 448

7. Taban ayrıtlarından birinin uzunluğu 20 cm ve yüksekliği 40 cm olan kare dik prizmanın içine yerleştirilebilecek silindirin hacmi en fazla kaç π santimetreküp olur?

- A) 2000
- B) 3000
- C) 4000
- D) 5000

8. Taban yarıçapının uzunluğu 5 cm ve yüksekliği 10 cm olan silindir biçimindeki kabın tamamı su ile doludur. Silindirdeki suyun tamamı bir ayrıttının uzunluğu 10 cm olan küp biçimindeki boş bir kaba boşaltıldığında kaptaki suyun yüksekliği kaç santimetre olur? (π yerine 3 alınız.)

- A) 10
- B) 7,5
- C) 5
- D) 2,5

1. OTURUM

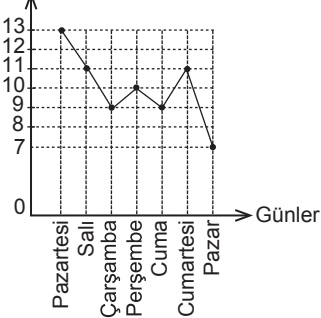
9. Bütün ayrıtlarının uzunlukları toplamı 60 cm olan küpün hacmi kaç santimetreküptür?

- A) 27 B) 64 C) 125 D) 126

10. Hacmi 500 cm^3 olan kürenin yarıçapının uzunluğu kaç santimetredir? (π yerine 3 alınız.)

- A) 5 B) 4 C) 3 D) 2

11. Sıcaklık ($^{\circ}\text{C}$)



Yukarıdaki grafik bir şehrin bir haftalık sıcaklık değerlerinin değişimini göstermektedir.

Buna göre bu şehrin bir haftalık sıcaklık değerlerinin ortalaması kaç $^{\circ}\text{C}$ 'dir?

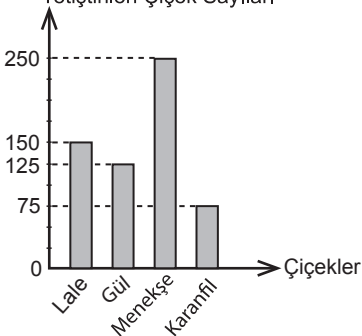
- A) 8 B) 9 C) 10 D) 11

12. 15 günlük tatile çıkan Mehmet, tatilinin 4 gününü İstanbul'da, 5 gününü İzmir'de, 3 gününü Muğla'da ve kalan günlerini de Antalya'da geçirmiştir.

Bu veriler daire grafiği ile gösterildiğinde Mehmet'in tatilini Antalya'da geçirdiği gün sayısının veren daire diliminin merkez açısının ölçüsü kaç derece olur?

- A) 48 B) 72 C) 96 D) 120

13. Yetiştirilen Çiçek Sayıları

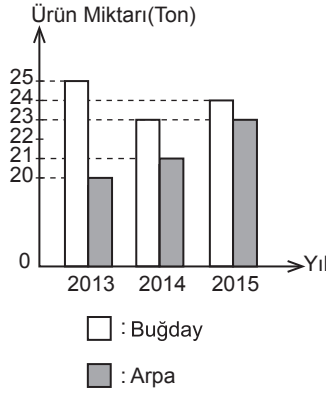


Yukarıdaki grafikte bir serada bir ayda yetiştirilen 4 çeşit çiçeğin sayıları verilmiştir.

Grafiğe göre bir ayda; en çok yetiştirilen çiçek sayısının, yetiştirilen tüm çiçeklerin toplam sayısına oranı kaçtır?

- A) $\frac{5}{12}$ B) $\frac{1}{2}$ C) $\frac{2}{3}$ D) $\frac{3}{4}$

14.



Yukarıdaki grafikte yarısında buğday, diğer yarısında arpa yetiştirilen bir tarladan 2013, 2014 ve 2015 yıllarında elde edilen ürün miktarları verilmiştir.

Grafiğe göre 3 yılda elde edilen buğday miktarı arpa miktarından kaç ton fazladır?

- A) 5 B) 6 C) 7 D) 8

15. İki zar birlikte atıldığında üst yüze gelen sayıların toplamının 5 olma olasılığı kaçtır?

- A) $\frac{1}{18}$ B) $\frac{1}{9}$ C) $\frac{5}{36}$ D) $\frac{5}{12}$

16. Bir madeni para üç kez havaya atılıyor. Bu üç atışta da üst yüze yazı gelme olasılığı kaçtır?

- A) $\frac{3}{4}$ B) $\frac{3}{8}$ C) $\frac{1}{4}$ D) $\frac{1}{8}$

17. A torbasında özdeş 3 beyaz, 5 siyah bilye, B torbasında özdeş 5 beyaz, 6 siyah bilye vardır.

A torbasından rastgele bir bilye alınıp B torbasına atıldıktan sonra B torbasından rastgele alınan bir bilyenin beyaz olma olasılığı kaçtır?

- A) $\frac{9}{48}$ B) $\frac{25}{96}$ C) $\frac{43}{96}$ D) $\frac{2}{3}$

18. Bir sınıfta bulunan 12 kız, 15 erkek öğrenci arasından rastgele seçilecek sınıf başkanının kız olması olasılığı kaçtır?

- A) $\frac{1}{3}$ B) $\frac{4}{9}$ C) $\frac{5}{9}$ D) $\frac{2}{3}$

19. $A = \{1,2,3,4,5\}$ kümesinden rastgele seçilen iki sayının çarpımının çift sayı olma olasılığı kaçtır?

- A) $\frac{7}{10}$ B) $\frac{3}{5}$ C) $\frac{1}{2}$ D) $\frac{2}{5}$

20. Aralarında Ali ve Veli'nin bulunduğu beş kişilik bir grup düz bir sıra halinde dizildiklerinde Ali ve Veli'nin yan yana olmaları olasılığı kaçtır?

- A) $\frac{4}{5}$ B) $\frac{3}{5}$ C) $\frac{2}{5}$ D) $\frac{1}{5}$

(611) KARŞ. DİN. TAR. – 1

1. Karşılaştırmalı dinler tarihi ile ilgili aşağıda verilen bilgilerden hangisi yanlıştır?

- A) Konusu yeryüzünde var olan tüm dinlerdir.
B) Dinlerin doğuşu, gelişmesi ve birbirleriyle etkileşimlerini inceler.
C) İslam'ın üstünlük, gelişmişlik ve doğruluğunu ispatlamayı hedef edinir.
D) "Nitelandirici" metot yanında "karşılaştırma" metoduna da başvurur.

2. İslam'ın inanç esasları hakkında bilgi edinmek isteyen dinler tarihçisi, aşağıdaki temel İslam bilimlerinden öncelikle hangisine başvurmalıdır?

- A) Tefsir B) Hadis
C) Fıkıh D) Kalam

3. "...Onlar kelimelerin yerlerini değiştirirler. Kendilerine öğretilen ahkâmın (Tevrat) önemli bir bölümünü unuttular..." (Mâide suresi, 13. ayet)

Bu ayet Yahudilik ile ilgili aşağıda kilerden hangisini dile getirmektedir?

- A) Dinlerinin tahrif edildiğini
B) Seçilmiş bir kavim olduklarını
C) Evrensel bir din olduğunu
D) Tevrat'ın Hz. Musa'ya indirildiğini

4. Aşağıdakilerden hangisi Firavun ile ilgili Kur'an-ı Kerim'de verilen bilgilerden biri değildir?

- A) Hz. Musa ile mücadele etmiştir.
B) Allah'ın gazabı ile helak olmuştur.
C) Kendisini Rab ilan eden azgın bir şahıstır.
D) Ölüm anındaki imanı Allah tarafından kabul edilmiştir.

1. OTURUM

5. Hz. Süleyman tarafından Kudüs'te yapılan mabet, İslam geleneğinde hangi isimle bilinir?

- A) Bet-Hamikdaş
- B) Beytü'l-Makdis
- C) Beytü'l-Hikme
- D) Mescid-i Haram

6. Aşağıdakilerden hangisi karşılaştırmalı dinler tarihinin hadis alanına sunduğu katkılardan biri değildir?

- A) Hadislerin daha doğru anlaşılması ve yorumlanmasına yardımcı olur.
- B) Hadislerin sahit olup olmadığının anlaşılmasına katkıda bulunur.
- C) Ayetlerden hüküm çıkarma metotlarının bilinmesine yardımcı olur.
- D) İslam'ın özüne ters düşen hadislerin kaynağının tespit edilmesine katkı sağlar.

7. "Buda"nın asıl adı nedir?

- A) Siddharta
- B) Kung Fu-Tzu
- C) Nanak
- D) Parsva

8. İslam'a göre dinin kaynağı aşağıdakilerden hangisidir?

- A) Akıl
- B) Vahiy
- C) Kültür
- D) Örf-adet

9. "... Hiçbir millet yoktur ki kendisine bir uyarıcı gelip içlerinde kalmış olmasın."
(Fâtır suresi, 24. ayet)
"... (Hâlbuki) sen ancak bir uyarıcısın ve her toplumun bir rehberi vardır."
(Ra'd suresi, 7. ayet)

Verilen ayetlerden aşağıdaki sonuçlardan hangisi çıkarılamaz?

- A) Her topluma peygamber gönderilmiştir.
- B) İnsanlığa rehberlik eden bir uyarıcı her dönemde var olmuştur.
- C) Allah toplumlara peygamber olarak erkekleri göndermiştir.
- D) Peygamberler insanları yanlış yollardan alıkoyup, doğru yola iletmeye çalışmışlardır.

10. Kutsal bir hikâyenin anlatımıdır. Konusunu olup bitmiş gerçek olaylardan alır. Olmuş olayları mecazî bir dil ve semboller kullanarak insanların anlayabileceği şekilde anlatır.

Hakkında bilgi verilen kavram aşağıdakilerden hangisidir?

- A) Mitos
- B) Masal
- C) Efsane
- D) Destan

11. Hristiyanların, Hz. İsa'nın havari-lerle yediği son akşam yemeğinin hatırasına düzenledikleri ayin hangisidir?

- A) Kuvvetlendirme (Konfirmasyon)
- B) Evharistiya (Komünyon)
- C) Günah itirafı (Tövbe)
- D) Vaftiz

12. Katolik ve Ortodoks Hristiyanlar Hz. Meryem'in nerede öldüğünü kabul ederler?

- A) Roma
- B) Kudüs
- C) Efes
- D) Hatay

13. İslam'a göre bütün peygamberler birer İslam peygamberi, onlara vahyolunan bütün ilahî mesajlar da insanlara dini öğreten ilahi buyruklardır.

Bu cümleden aşağıdakilerden (sonuçlardan) hangisi çıkarılamaz?

- A) Allah tüm peygamberlere vahyetmiştir.
- B) Peygamberler aynı amaç için gönderilmişlerdir.
- C) Peygamberler insanlar için birer öğretmendirler.
- D) Peygamberler akıllı ve güvenilir insanlardır.

14. Yahudiler Müslümanları aşağıdaki grupların hangisinden kabul ederler?

- A) Putperest
- B) Müşrik
- C) Nuhi
- D) İsevî

15. Aşağıdakilerden hangisi İslam'ın temel özelliklerinden biri değildir?

- A) Tevhit inancına dayanır.
- B) Ruhban sınıfına değer verilir.
- C) Tüm insanlara gönderilmiştir.
- D) İnsanların günahsız doğduğu kabul edilir.

16. Hinduizm'de kast dışı kabul edilen ve toplumda hiçbir görevi ve hakkı bulunmayan kişilere ne denir?

- A) Paryalar
- B) Sudralar
- C) Vaisyalar
- D) Brahmanlar

17. • Belli bir kurucusu yoktur.
• "Om" kelimesi ibadetin sembolüdür.
• Ölümler yakılarak külleri Ganj nehri-ne dökülür.
• Ruhun ölümsüz olduğu ve beden-den bedene göç ettiği kabul edilir.
Hakkında bilgi verilen din aşağıdakilerden hangisidir?

- A) Sihizm
- B) Şintoizm
- C) Hinduizm
- D) Konfüçyanizm

18. Aşağıdakilerden hangisi diğer dinleri öğrenmenin Müslümanlara sağladığı yararlarından biri değildir?

- A) Diğer din mensuplarıyla sağlıklı bir iletişim kurmaya yol açar.
- B) Misyonerlik faaliyetlerini tanımaya ve bunlara karşı önlem almaya yardımcı olur.
- C) İslam'ın diğer din mensuplarına daha iyi anlatılmasına katkı sağlar.
- D) Müslümanların inanç esaslarını daha derinlemesine öğrenmelerine katkı sağlar.

19. Sihizm hangi bölgede ortaya çıkmış bir dindir?

- A) İran
- B) Japonya
- C) Çin
- D) Hindistan

20.

I. Şintoizm	• Çin'in resmi devlet dinidir.
II. Konfüçyanizm	• Yüce tanrı Ahura Mazda'ya ibadet önemlidir.
III. Zerdüştlük	• Kurtuluş "sekiz dilimli yol"a uymakla mümkündür.
IV. Budizm	

Tablodaki dinler ve bilgiler eşleştirildiğinde hangi din dışarıda kalır?

- A) I.
- B) II.
- C) III.
- D) IV.

1. OTURUM

(617) SEÇ. DİL VE ANLA. – 7

1. Aşağıdakilerden hangisi sanatsal bir metinden alınmıştır?

- A) Türkçede herkesin bildiği, kullanıldığı aşk, sevdâ gibi yabancı sözcüklerin yanı sıra sevgi ve sevgi gibi kelimeler de vardır. Ancak Anadolu ağızlarında rastladığımız "ağın" sözcüğü ilgi çekici bir niteliktedir.
- B) Hıdırellez geldi. Güneş, toprağı yeniden ısıttı. Bütün bir kış bembeyaz bir uyku içinde hareketsiz duran köy, yavaş yavaş canlanmaya başlamıştı. Sığırlarını önüne katıp tarlalara yönelen köylüler birer birer beliriyorlardı.
- C) Çok şey söylemez şair, sanki sözcüklerden tasarruf etmek başlıca dileğidir. İlk kitabı "Kınar Hanım'ın Denizleri" sözcük yığını yerine kavramlaşmış sözcükler kullanılan bir şiir kitabıdır. Ne saklayayım, Ece Ayhan'ın şiiri gelişkin bir şiirdir, bir kültür şiiridir.
- D) Konuşma diline perende attıranlardan biri de Ahmet Rasim'dir. Hoş, onun yazıları çoğunlukla fıkra niteliği taşır ama kendi de yazdıklarına fıkra gözüyle bakar; kimi yazılarının deneme olduğunu kabul etmemeye olanak yoktur.

2. Ey bu toprak için toprağa düşmüş asker

Gökten ecdâd inerek öpse o pâk alını deđer

Bu dizelerdeki altı çizili bölümde bulunan edebî sanat aşağıdakilerin hangisidir?

- A) Kinaye B) Benzetme
C) Kişileştirme D) Abartma

3. • Hareketten çok ses taklidi, jest ve mimiklere dayanan bir sanattır.

- Sanatçı, dinleyicilerin toplandığı yerlerde yüksekçe bir yere çıkarak sanatını gösterir.
- Aksesuar olarak sadece omzunda bir mendil ve elinde bastonu bulunur.

Bu özellikler aşağıdaki geleneksel Türk tiyatrosu türlerinden hangisine aittir?

- A) Köy seyirlik oyunlarına
B) Karagöz'e
C) Meddaha
D) Orta oyununa

4. I. Revü
II. Dram
III. Operet
IV. Absürt tiyatro

Numaralanmış tiyatro türlerinden hangileri müzikli oyundur?

- A) I ve II. B) I ve III.
C) II ve III. D) III ve IV.

5. Durum öyküsünün edebiyatımızdaki en önemli temsilcileri aşağıdaki seçeneklerin hangisinde bir arada verilmiştir?

- A) Refik Halit Karay – Ömer Seyfettin
B) Halit Ziya Uşaklıgil – Yakup Kadri Karaosmanoğlu
C) Orhan Kemal – Hüseyin Rahmi Gürpınar
D) Memduh Şevket Esendal – Sait Faik Abasıyanık

6. Aşağıdakilerin hangisinde masal ile ilgili yanlış bir bilgi verilmiştir?

- A) İlk Türkçe masal kitabı olarak Binbir Gece Masalları kabul edilmektedir.
B) Genellikle bir tekerlemeyle başlar.
C) Doğası gereği "mutlu son"la biter.
D) İlk söyleyeni belli değildir.

7. Aşağıdakilerin hangisinde halk şiiri nazım biçimleri bir arada verilmiştir?

- A) Koşma – sone – türkü – mesnevi
B) Semai – şarkı – mâni – ilahi
C) Koşma – semai – mâni – türkü
D) Tuyuğ – şarkı – türkü – ilahi

8. Batı romanında sık başvurulan bu anlatım tekniği bir alıntının, bir davranış biçiminin ya da belli bir özelliğin roman boyunca sürekli bir biçimde yinelenmesidir.

Bu cümlede özelliği verilen çağdaş Batı romanına özgü anlatım tekniği aşağıdakilerden hangisidir?

- A) Bilinç akışı
B) Leitmotif
C) Görece zaman anlayışı
D) Montaj

9. İşte, rüzgâr esiyor, dalgalar coştı yine;
Kumlara işlediğim hayalin de kayboldu
Hicranınla yanarken ben derinden derine,
Karşında, solan yüzüm gibi, güneş de soldu.

Bu dördlüğe hâkim olan duygu aşağıdakilerden hangisidir?

- A) Pişmanlık B) Sevinç
C) Korku D) Özlem

10. Roman sanatının ilk başarılı örneği ---- tarafından yazılan ----.

Bu cümlede boş bırakılan yerlere sırasıyla aşağıdakilerden hangileri getirilmelidir?

- A) Victor Hugo – Sefiller'dir
B) Dostoyevski – Suç ve Ceza'dır
C) Cervantes – Don Kişot'tur
D) Stendhal – Kırmızı ve Siyah'tır

11. Gökyüzünün başka rengi de varmış! Geç fark ettim taşın sert olduğunu. Su insanı boğar, ateş yakarmış! Her doğan günün bir dert olduğunu, İnsan bu yaşa gelince anlamış.

Bu dizelerle ilgili aşağıdakilerden hangisi söylenemez?

- A) Sanatsal metne örnektir.
B) Bilgi verme amacı vardır.
C) Üslup kaygısıyla yazılmıştır.
D) Dil, şiirsel işleviyle kullanılmıştır.

12. Ders vermek amacıyla hayvanlar ya da cansız varlıklar arasında geçen bir olayı genellikle manzum olarak anlatan yazılara ---- denir.

Bu cümlede boş bırakılan yere aşağıdakilerden hangisi getirilmelidir?

- A) fabl B) masal
C) hikâye D) roman

1. OTURUM

13. Aşağıdakilerden hangisi ilahi başış açısıyla kaleme alınmıştır?

- A) Çaresizlik içindeyim. Ötede, ülkemde bir evim var. Oraya dönemiyorum. Artık dönemeyeceğim de. Hasretlik çok zor geliyor.
- B) Sabah... Saat daha yedi olmadığı hâlde Makar Kuzmuş Bliostkov'un berber dükkânı açık. Şık giyimli ama üstü başı kir içinde, yirmi yaşlarındaki dükkân sahibi Makar, sabah temizliği yapmakta.
- C) O eski şevki kayboluverdi. Ruhuna koyu bir karanlık doldu. Kalbine acı bir ağırlık çöktü. Artık Deli Mehmet'in yeşil nurdan mezarı içinde sürdüğü zevki göremez oldu.
- D) Buradan ayrıldıktan sonra ne yapacağım? Sıhhatim yavaş yavaş düzeliyor. Fakat nafile öyle hissediyorum ki içimde müebbeden kırılmış bir şey var.

14. 16. yüzyıldan itibaren destanların yerini tutmaya başlayan ve günümüzde de özellikle Doğu Anadolu'da yaşamaya devam eden halk hikâyeleri aşağıdaki anlatıcıların hangisi tarafından günümüze kadar getirilmiştir?

- A) Hükümdar ve devlet başkanları
B) Din adamları
C) Edebiyat tarihçileri
D) Âşıklar

15. I. Bu tarz hikâyelerde gerçekler abartılarak verilir.
II. Merak ögesi ikinci plandadır.
III. Kahramanlar karşılıklı konuşma içinde bulunur.
IV. Serim, düğüm, çözüm planına uyulur.

Numaralanmış özelliklerden hangileri durum hikâyesi için söylenemez?

- A) I ve II. B) I ve IV.
C) II ve III. D) III ve IV.

16. Romanda çatışmaların ve engellerin ortadan kalktığı, olayların sona erdiği bölüm aşağıdakilerin hangisidir?

- A) Çözüm B) Giriş
C) Düşeme D) Gelişme

17. Bu tiyatronun göze çarpan yönü kalıplaşmış gerçeklere karşı çıkmak, tabiattan ve mantıktan uzaklaşmak, insanları düşündürmektir. Az olay ve sözle önemli şeyler anlatmak düşüncesi ön plana çıkar. Sahne, perde düzeni, giriş-çıkışlar, serim, düğüm, çözüm bölümleri önemli değildir.

Bu parçada kısaca tanıtılan tiyatro türü aşağıdakilerin hangisidir?

- A) Epik tiyatro B) Tragedya
C) Dram D) Absürt tiyatro

18. Aşağıdakilerden hangisi Karagöz oyunundaki tiplerden biri değildir?

- A) Tuzsuz Deli Bekir
B) Çelebi
C) Pişekâr
D) Zenne

19. Manzume ile şiir karşılaştırmasına dair aşağıda verilenlerin hangisi yanlıştır?

- A) Şiirde olay örgüsü vardır, manzumede yoktur.
B) Manzumelerde anlatılanlar düzyazıyla ifade edilebilir, şiirde bu çok güçtür.
C) Şiirde duygu ve çağırışım ön plandadır, manzumede yaşanabilecek şeyler işlenir.
D) Şiirde çok anlamlılık ve imge ağır basar, manzumede kelimeler genelde gerçek anlamlarıyla kullanılır.

20. Aşağıdakilerden hangisi masallar üzerinde çalışan önemli derlemecilerimizden biridir?

- A) Turgut Uyar
B) Sezai Karakoç
C) Eflatun Cem Güney
D) Nurullah Ataç

(618) SEÇ. DİL VE ANLA. – 8

1. Aşağıdakilerden hangisi sözlü anlatım türlerinden biridir?

- A) Tiyatro B) Hikâye
C) Makale D) Açık oturum

2. Geçen gün babamla bir toplantı salonuna gittik. Bir dil profesörü geliştirdiği dil teorisiyle ilgili bilgiler verdi. Bir saat süren anlatımın sonunda dillerle ilgili pek çok şey öğrenerek eve döndüm.

Bu parçada sözü edilen toplantının türü aşağıdakilerden hangisidir?

- A) Konferans B) Panel
C) Münazara D) Sempozyum

3. Aşağıdakilerin hangisi bilimsel bir yazıdan alınmıştır?

- A) Öte tarafta kız, aynı gün bir önceki gibi hazırlanır. Bu defa elbise beyaz, taht beyaz, tekmiil pırlantalarla bezenmiş. Kız tahta kurulmuş.
B) Bir söz vardır "Kambersiz düğün olmaz." diye. Kambersiz düğün olur mu, olmaz mı bilemem. Ama "Kamber"siz Arzu olmaz; bunu bilir, bunu söylerim.
C) Bu yeni yöntem aracılığı ile zihnin nasıl işlediğini, hangi aktivite için beynin, hangi bölümünü kullandığını ve hangi sinyallere nasıl tepkiler verdiğini anlamak mümkün olacak.
D) Açılan bir gülsün sen yaprak yaprak, Ben aşkımla bahar getirdim sana; Tozlu yollarından geçtiğim uzak iklimden şarkılar getirdim sana.

4. Zıt kutuplu konular; iddia etme ve ispatlama kaygısı olduğu için - - - tartışılmaya daha elverişlidir.

Bu cümlede boş bırakılan yere aşağıdakilerden hangisi getirilmelidir?

- A) forumda
B) münazarada
C) sempozyumda
D) açık oturumda

5. • Sempozyumda alınan kararlar, basılı materyal hâline getirilerek kamuoyuyla paylaşılır.
• Sempozyumda her oturumun mutlaka bir başkanı bulunur.
• Sempozyum bir günden fazla sürmez.

Bu cümleler doğru-yanlış bakımından değerlendirildiğinde sıralama aşağıdakilerden hangisi olur?

- A) Y – D – D B) D – Y – Y
C) Y – Y – D D) D – D – Y

1. OTURUM

6. Tartışmaya dinleyicilerin de aktif bir şekilde katıldığı sözlü anlatım türü aşağıdakilerden hangisidir?

- A) Münazara B) Forum
C) Açık oturum D) Sempozyum

7. Bilimsel yazılarda dil hangi işlevde kullanılır?

- A) Heyecana bağlı
B) Kanalı kontrol
C) Sanatsal
D) Göndergesel

8. Aşağıdakilerin hangisinde dipnot yazımı doğrudur?

- A) Doğan Aksan, Türkçenin Gücü, Bilgi Yayınevi, 6. Basım, Ankara 1999, s.35
B) 6. Basım, Bilgi Yayınevi, Türkçenin Gücü, Doğan Aksan, Ankara 1999, s.35
C) Ankara 1999, s.35, Doğan Aksan, Türkçenin Gücü, Bilgi Yayınevi, 6. Basım
D) Türkçenin Gücü, Doğan Aksan, Ankara 1999, Bilgi Yayınevi, 6. Basım, s.35

9. Bilimsel yazılarla ilgili aşağıdakilerin hangisinde bilgi yanlışı vardır?

- A) Başkalarının görüşlerinden yararlanıldığında görüşü alınan kişinin belirtilmesine gerek yoktur.
B) Bu tür yazılar için açıklık ve kesinlik vazgeçilmez ilkelere sahiptir.
C) Genellikle kanıtlayıcı, açıklayıcı ve öğretici anlatımdan yararlanır.
D) Uzman kişiler tarafından kısa, öz ve anlaşılır bir şekilde kaleme alınır.

10. Forum başkanının aşağıdaki özelliklerinden hangisini taşıması doğru değildir?

- A) Tartışma konusunu çok iyi bilmek
B) Dinleyicilerin özelliklerini bilmek
C) Baskıcı ve otoriter olmak
D) Farklı düşünceler arasında ilişki kurabilmek

11. Aşağıdakilerden hangisi münazara da tartışmaya elverişli bir konudur?

- A) Lale Devri, savaşların olmadığı ve kültürel gelişmelerin görüldüğü bir dönemdir.
B) Servetifünun romanı teknik açıdan Tanzimat romanının epey ilerisindedir.
C) İlkokullarda yabancı dil eğitiminin verilmesi doğru bir uygulamadır.
D) Kara yollarında kurallara uyulması kaza oranlarını düşürmektedir.

12. Aşağıdakilerden hangisi açık oturumda yer alan konuşmacıların özelliklerinden biri olamaz?

- A) Sabırlı B) Uyumlu
C) Baskıcı D) Hoşgörülü

13. Bir kitabın veya derginin kişi, konu, yer adı vb. bakımdan içindekileri yer numarasıyla belirten ve eserin arkasında yer alan alfabetik liste, indeks, fihrist.

Bu cümlede bilimsel yazılarla ilgili aşağıdaki terimlerden hangisinin tanımı yapılmıştır?

- A) Dizin B) Kaynakça
C) Dipnot D) Bibliyografya

14. I. Başkan tartışma konusu dışına çıkarak konunun havasını dağıtmalıdır.
II. Süslü ve sanatlı söyleyişlere fikirlerden daha çok önem verilmelidir.
III. Münazara kişisel üstünlük sorunu olarak görülmemelidir.
IV. Aynı konuda üst üste söz almaya çalışılmamalıdır.

"Münazara" ile ilgili yukarıda verilen özelliklerden hangileri yanlıştır?

- A) I ve II. B) I ve III.
C) II ve IV. D) III ve IV.

15. • Açık oturumda bir yarışma havası vardır.
• Konferansta en az iki kişinin konuşmasına yer verilir.
• Açık oturumda konuşmacı sayısının altıyı geçmemesi tercih edilir.

Bu cümleler doğru-yanlış olarak değerlendirildiğinde sıralama aşağıdakilerden hangisi olur?

- A) D – D – Y B) Y – Y – D
C) D – Y – Y D) Y – D – D

16. 12. Sınıf öğrencisi Aylin, gittiği bir tartışma ile ilgili şu gözlemleri yapmıştır:
• Her bir konuşmacı ayrı ayrı konuşma yapmıştır.
• Toplantı iki gün sürmüştür.
• Toplantı sonunda bir bildiri hazırlanmıştır.

Bu bilgilere göre Aylin, aşağıdaki tartışma türlerinden hangisine katılmıştır?

- A) Konferansa B) Açık oturuma
C) Münazaraya D) Sempozyuma

17. Aşağıdakilerin hangisi bilimsel yazıların bölümlerinden biri değildir?

- A) Başlık B) Sunuş
C) Özet D) Asıl metin

18. I. İleri sürülen düşüncenin ispatlanmasına gerek yoktur.
II. Bilimsel bir anlatım ağır basar.
III. Teknik deyimlere ve terimlere yer verilebilir.
IV. Betimleyici ve öyküleyici anlatıma ağırlık verilir.

"Makale" ile ilgili numaralanmış özelliklerden hangileri yanlıştır?

- A) I ve II. B) I ve IV.
C) II ve III. D) III ve IV.

19. Aşağıdakilerden hangisi münazaranın amaçlarından biri olamaz?

- A) Fikrini zorla karşı tarafa kabul ettirme alışkanlığı kazandırma
B) Öğrencilerin konuşma yeteneğinin gelişmesini sağlama
C) Doğru düşünme alışkanlıkları kazandırma
D) Düşüncelerin ve kabullerin karşılaştırılmasına olanak sağlama

20. Aşağıdakilerden hangisi sempozyum bildirisinin bölümlerinden değildir?

- A) Giriş B) Oluşturma
C) Deney D) Bulgular

(627) SEÇ. TÜRK ED. – 7

1. Aşağıdakilerden hangisi Yedi Meşaleciler topluluğuna üye sanatçılarından biri değildir?

- A) Necip Fazıl Kısakürek
B) Vasfi Mahir Kocatürk
C) Sabri Esat Siyavuşgil
D) Yaşar Nabi Nayır

2. Aşağıdaki II. Yeni şairlerinden hangisi Türk-İslam mistisizmini ifade eden şiirleriyle tanınmıştır?

- A) Sezai Karakoç
B) Turgut Uyar
C) Cemal Süreya
D) Edip Cansever

1. OTURUM

3. Elinde Bursa çakısı,
Boynunda kırmızı yazma;
Değnek soyarsın akşamlara kadar,
Fulya tarlasında.
- Ben sana hayran,
Sen cama tırman.
- Bu dizelerin, şekil ve içerik özellikleri göz önünde bulundurulduğunda aşağıdaki sanatçılardan hangisi tarafından kaleme alındığı söylenir?**
- A) Ahmet Muhip Dıranas
B) Orhan Veli Kanık
C) Necip Fazıl Kısakürek
D) Ahmet Kutsi Tecer
4. Sokaklarda
Ölümcül portakallar
Ve çivitsi bulutlar saat
Kaç olursa olsun
Üzünc yüklenmiş bir gemi
Akdeniz'de
Ölümcül
Çivitsi
Portakallar bulutlar
- Ece Ayhan'dan alınmış bu dizelele ilgili aşağıdakilerden hangisi söylenemez?**
- A) İlgeli ve kapalı bir anlatıma sahiptir.
B) Ölçü, uyak gibi ahenk öğeleri göz ardı edilmiştir.
C) Alışlagelen cümle kalıbının dışına çıkmıştır.
D) Millî hassasiyetler dile getirilmiştir.
5. - - - , "Abdullah Efendi'nin Rüyalan" adı altında topladığı hikâyelerinde rüyaya ve bilinçaltına önem vermiştir.
- Bu cümlede boş bırakılan yere aşağıdakilerden hangisi getirilmelidir?**
- A) Necati Cumalı
B) Ahmet Hamdi Tanpınar
C) Peyami Safa
D) Sabahattin Ali
6. Köyü konu alan edebiyata karşı 1950-60 arası etkisini gösteren bu edebî anlayışla yazılan eserlerde tedirginlik, yalnızlık gibi temalar işlenmiştir. Bireysel duyarlılıkların işlendiği bu eserlerde biçim kaygısı ağır basmıştır.
- Aşağıdaki sanatçılardan hangisi bu parçada anlatılan anlayışla eser veren sanatçılardan biridir?**
- A) Ferit Edgü
B) Yakup Kadri Karaosmanoğlu
C) Fakir Baykurt
D) Halide Edip Adıvar

7. • İstanbul Şehir Tiyatrosu ve Devlet Tiyatrolarında yöneticilik yapmıştır.
• Çağdaş Türk tiyatrosunun kuruluşunda rol oynamıştır.
- Bu özellikler aşağıdaki sanatçılardan hangisi için söylenir?**
- A) Orhan Asena
B) Muhsin Ertuğrul
C) Tarık Buğra
D) Behçet Necatigil
8. **Aşağıdaki tiyatro eserlerinden hangisi Necip Fazıl Kısakürek'e aittir?**
- A) Maske ve Ruh
B) Balıkesir Muhasebecisi
C) Bir Adam Yaratmak
D) Kafatası
9. I. Makaleler güncel konularla ilgili olmak zorundadır.
II. Makale gazete ile birlikte gelişen bir türdür.
III. Edebiyatımızda ilk makale örneği Ahmet Haşim tarafından verilmiştir.
IV. Makaleler, inceleme ve araştırmaya dayanan yazılardır.
- Numaralanmış bilgilerden hangileri yanlıştır?**
- A) I ve II. B) I ve III.
C) II ve III. D) III ve IV.
10. I. Anı yazılarında içten ve gerçekçi olmak gerekir.
II. Anılar, olayların yaşandığı anda, sıcaklığına kaleme alınmasıyla oluşur.
III. Anı türü insanoğlunun yaşadıklarını paylaşma ihtiyacından doğmuştur.
- Numaralanmış cümleler doğru – yanlış olarak değerlendirildiğinde sıralama aşağıdakilerin hangisi olur?**
- A) D - D - Y B) Y - Y - D
C) Y - D - Y D) D - Y - D
11. **Edebiyatımızda anı türündeki ilk eser aşağıdakilerden hangisidir?**
- A) Seyahatname
B) Paris Sefaretnamesi
C) Babürname
D) Şikâyetname

12. **Aşağıdakilerin hangisinde gezi yazılarıyla ilgili bir bilgi yanlıştır?**
- A) Gezi yazılarında anlatılanlar hayal ürünü de olabilir.
B) Anlatımda hikâye planına uygunluk gözetilir.
C) Gezilen yerler yüzeysel değil, özüne inilerek yazılmalıdır.
D) Yalın bir dil, renkli ve sürükleyici bir anlatım kullanılmalıdır.
13. **Aşağıdakilerden hangisi Cumhuriyet Dönemi'nde yazdığı fıkralarla dikkati çeken yazarlardan biridir?**
- A) Eflatun Cem Güney
B) Orhan Veli Kanık
C) Burhan Felek
D) Cenap Şahabettin
14. I. Kesin sonuçlara ulaşma amacı vardır.
II. Konu sınırlaması yoktur.
III. İçten bir anlatıma sahiptir.
IV. Belirli bir plana göre oluşur.
- Numaralanmış özelliklerden hangileri denemeye ait değildir?**
- A) I ve III. B) I ve IV.
C) II ve III. D) II ve IV
15. • Sait Faik Abasıyanık, "Halikarnas Balıkçısı" takma adıyla hikâye ve romanlar yazmıştır.
• Tarık Buğra eserlerinde insanı kendi bireyselliği içinde ele alır.
• Haldun Taner'in hikâye ve oyunlarında ironi ve sanat endişesi göze çarpar.
- Bu cümlelerde verilen bilgiler doğru - yanlış bakımından değerlendirildiğinde sıralama aşağıdakilerden hangisi olur?**
- A) D - Y - D B) D - D - Y
C) D - Y - Y D) Y - D - D
16. Cumhuriyet'in ilk yıllarında tiyatro türünün en başarılı isimlerindendir. Eserlerinde yöneticilerin açgözlülüğünü eleştirmiştir. Eserleri: İstanbul Efendisi, Aynaroz Kadısı, Bir Kavuk Devrildi.
- Bu parçada kısaca tanıtılan sanatçı aşağıdakilerden hangisidir?**
- A) İbnürrefik Ahmet Nuri Sekizinci
B) Muhsin Ertuğrul
C) Müsahipzade Celal
D) Haldun Taner

1. OTURUM

17. Aşağıdaki eserlerden hangisinin türü gezi yazısı değildir?

- A) Deniz Aşırı
- B) Tiryaki Sözleri
- C) Anadolu Notları
- D) Akdeniz'de Bir Yaz Gezintisi

18. İbrahim Şinasi ve Agâh Efendi'nin 1860'ta çıkardıkları - - - - adlı gazetede Şinasi tarafından ilk makale yazılmıştır. **Bu cümlede boş bırakılan yere aşağıdakilerden hangisi getirilmelidir?**

- A) Tercüman-ı Ahval
- B) Takvim-i Vakayi
- C) Tasvir-i Efkâr
- D) Tercüman-ı Hakikat

19. Dil ve şekil özellikleri bakımından incelendiğinde aşağıdaki dizelerin hangisinin Cumhuriyet Dönemi'nde yazıldığı söylenir?

- A) Ne dem ki bezmde ol şuh-ı işveger bulunur
Hayalhane-i uşşakta neler bulunur
- B) Beni bende demen, ben bende değilem
Bir ben var bende benden içerü
- C) Saba eyler kudüm-i nev-bahrı kuhtan tebşir
Eder tıfl-i muhabbet asiya-bı alemler tedvir
- D) İnsan dallarla, bulutlarla bir,
Aynı mavilikten geçmiştir
İnsan nasıl ölebilir
Yaşamak bu kadar güzelken

20. Aşağıdaki sanatçılardan hangisi 2006 yılında Nobel Edebiyat Ödülü'nü kazanmıştır?

- A) Yaşar Kemal
- B) Selim İleri
- C) Murathan Mungan
- D) Orhan Pamuk

(628) SEÇ. TÜRK ED. – 8

1. Toplum hayatını anlatmak, mahallî bir edebiyat yapmak sanatçının en önemli özelliğidir. Kuvvetli gözlemleriyle hayat sahnelerini, olayları, konuşmaları bütün canlılığıyla eserlerine yansıttı. İslami duyarlılığıyla millî kaygılarını birleştirdi. Çanakkale Şehitlerine, Küfe, Seyfi Baba başlıca şiirleridir.

Bu parçada kısaca tanıtılan sanatçı aşağıdakilerden hangisidir?

- A) Nazım Hikmet Ran
- B) Mehmet Akif Ersoy
- C) Turgut Uyar
- D) Atilla İlhan

2. Bu bir türkü:

Toprak çanaklarda
Güneşi içenlerin türküsü!
Bu bir örgü:
Alev bir saç örgüsü
Kıvraniyor;
Kanlı, kızıl bir meş'ale gibi yanıyor
Esmer alınlarında

Bu dizelerin şekil ve içerik özellikleri göz önünde bulundurulduğunda aşağıdaki sanatçılardan hangisi tarafından yazıldığı söylenir?

- A) Nazım Hikmet Ran
- B) Necip Fazıl Kısakürek
- C) Yahya Kemal Beyatlı
- D) Arif Nihat Asya

3. Faruk Nafiz Çamlıbel ile ilgili aşağıdakilerin hangisinde bilgi yanlıştır?

- A) Hecenin beş şairinden biri olan sanatçı Anadolu edebiyatının en tanınmış isimlerindedir.
- B) Şiirde yurt güzelliklerini ve Anadolu insanının sıkıntılarını anlatmıştır.
- C) Şiirlerindeki uyumu ölçü ve uyakla sağlamıştır.
- D) "Kaldırımlar" şairin en tanınmış şiirlerinden biridir.

4. Aşağıdaki sanatçılardan hangisi memleketçi edebiyatın temsilcilerinden değildir?

- A) Kemalettin Kamu
- B) Cema Süreya
- C) Zeki Ömer Defne
- D) Behçet Kemal Çağlar

5. "Orda bir köy var uzakta;
O köy bizim köyümüzdür..."
dizeleriyle kulaklarımıza kazınan sanatçı şiirde ulusal kültürü ve yurt sevgisini işledi. Bu kaynak sanatçıyı folklor araştırmalarına yöneltti ve Anadolu kültürünü her yönüyle araştırmalarına konu edindi.

Bu parçada kısaca tanıtılan sanatçı aşağıdakilerden hangisidir?

- A) Halide Nusret Zorlutuna
- B) Ömer Bedrettin Uşaklı
- C) Ahmet Kutsi Tecer
- D) Ahmet Muhip Dıranas

6. Aşağıdakilerden hangisi II. Yeni anlayışıyla yazan şairlerden biri değildir?

- A) Turgut Uyar
- B) Atıf Behramoğlu
- C) Edip Cansever
- D) Ece Ayhan

7. Aşağıdakilerden hangisi Garip şiirinin özelliklerinden biri değildir?

- A) Alaycı bir şiirdir, şaka ve nükteye bolca yer verilir.
- B) Şiirin şekil özelliklerine (ölçü, uyak...) sıkı sıkıya bağlı kalınmıştır.
- C) Günlük yaşam ve sıradan insanlar şiirin başlıca konuları olmuştur.
- D) Konuşma dilinin doğallığından yararlanılmıştır.

8. Aşağıdaki şairlerden hangisi II. Yeni'ye has bir dil ve söylemle İslami konulara yönelmiştir?

- A) Sezai Karakoç
- B) Ece Ayhan
- C) İlhan Berk
- D) Ülkü Tamer

9. Aşağıdakilerden hangisi 1980 sonrası şiirin temsilcilerindedir?

- A) Atilla İlhan
- B) Ahmet Haşim
- C) Yahya Kemal Beyatlı
- D) Haydar Ergülen

10. I. Ölçü olarak aruz kullanılır.
II. Nazım birimi dördüktür.
III. Genellikle zengin uyak tercih edilir.
IV. İnsan, hayvan, doğa vb. konular işlenir.

Numaralanmış özelliklerden hangileri halk şiiri için söylenemez?

- A) I ve II.
- B) I ve III.
- C) II ve IV.
- D) III ve IV.

11. Şiirde - - - - , - - - - , - - - - gibi ahengi sağlayan öğeler vardır.

Bu cümlede boş bırakılan yerlere aşağıdakilerden hangisi getirilemez?

- A) ölçü
- B) uyak
- C) tema
- D) aliterasyon

12. Gittim gidilmeyecek yerlere
Düştüm düşülmeyecek kuyulara
Söyledim söylenmeyecek sözleri

Bu dizelere hâkim olan duygu aşağıdakilerden hangisidir?

- A) Pişmanlık
- B) Yalnızlık
- C) Korku
- D) Özlem

13. Aşağıdaki sanatçılardan hangisi şiirlerinde hece ölçüsünü kullanmamıştır?

- A) Faruk Nafiz Çamlıbel
- B) Ahmet Kutsi Tecer
- C) Kemalettin Kamu
- D) Ahmet Haşim

1. OTURUM

14. Yaşarken kitap çıkarmayan sanatçı, klasik şiirimizi Batı şiirindeki bütünlük anlayışı ile ele aldı. Genel olarak Osmanlı medeniyet ve kültürüne bağlı kaldı. Şiirlerinin birçoğunda İstanbul sevgisini dile getirdi. İç ahengi her şeyden üstün tuttu. Şiiri "musikiden başka türlü bir musiki" olarak kabul etti.

Bu parçada sözü edilen sanatçı aşağıdakilerden hangisidir?

- A) Yahya Kemal Beyatlı
B) Ercüment Behzat Lav
C) Ahmet Kutsi Tecer
D) Mehmet Emin Yurdakul

15. Allı, yeşilli işportam. İşportamda oyuncaklarının çeşitleri tam Benim, irili ufaklı kaypakların çomarı Tomarı Yüklü, türedi kukla oyuncaklarını

Bu dizeler aşağıdaki şiir anlayışlarının hangisiyle kaleme alınmıştır?

- A) Halk şiiri
B) Öz şiir anlayışını sürdüren şiir
C) Serbest nazım ve toplumcu şiir
D) Millî Edebiyat zevk ve anlayışını sürdüren şiir

16. Aşağıdakilerden hangisi II. Yeni şiiri için söylenemez?

- A) Bireyci bir şiir anlayışı vardır.
B) Mecaz ve imgeler bolca kullanılır.
C) Nükte ve şaşırtmalara yer verilir.
D) Dadaizm ve sürrealizmin etkileri görülür.

17. On altıya karar verdim yaşını
Yenice sevdaya salmış başını
El yanında yıkar gider kaşını
Tenhalarda gülüşünü sevdiğim

Bu dizelerle ilgili aşağıdakilerden hangisi söylenemez?

- A) 11'li hece ölçüsü ile söylenmiştir.
B) Halk şiiri geleneğiyle oluşturulmuştur.
C) Yarım uyak kullanılmıştır.
D) Nazım birimi dördüktür.

18. Yiğit kendini öğende
Oklar menzili doğende
Şeş-per kalkana değende
Kalkan gümbür gümbürleri

Bu dizelerin konusuna göre türü aşağıdakilerden hangisidir?

- A) Taşlama
B) Koçaklama
C) Güzelleme
D) Ağıt

19. Aşağıdakilerden hangisi Cumhuriyet Dönemi halk şairlerinden değildir?

- A) Murat Çobanoğlu
B) Şeref Taşlıova
C) Yaşar Reyhanî
D) Cahit Zarifoğlu

20. Türk hikâye ve romanında toplumcu gerçekçiliğin öncülerinden olan - - - , gözleme dayalı konularını yaşamından alır. Sanatın tek amacının insanları daha iyiye, daha doğruya, daha güzelsemek olduğunu belirtir.

Bu parçada boş bırakılan yere aşağıdakilerden hangisi getirilmelidir?

- A) Sabahattin Ali
B) Sait Faik Abasıyanık
C) Mehmet Rauf
D) Bilge Karasu

(711) İSLAM TARİHİ – 1

1. İslam tarihinin ilk ve en önemli kaynağı, aşağıdakilerden hangisidir?

- A) Hadisler
B) Efsaneler
C) Siyer kitapları
D) Kur'an-ı Kerim

2. Aşağıdaki İlk Çağ toplumlarından hangisinde yazılı tarihin gelişme göstermesi beklenmez?

- A) Türklerde
B) İbranilerde
C) Romalılarda
D) Yunanlılarda

3. Ay yılı kaç gündür?

- A) 333 gün
B) 354 gün
C) 360 gün
D) 365 gün

4. Irak'ta devlet kurmuş olan Hireliler, aşağıdaki hangi devlete bağlı olarak hüküm sürmüşlerdir?

- A) Sasani
B) Memlûk
C) Büyük Selçuklu
D) Bizans İmparatorluğu

5. Aşağıdaki kentlerden hangisi hicretten sonra "Medinetü'n Nebi" (Peygamber şehri) adını almıştır?

- A) Taif
B) Kudüs
C) Mekke
D) Yesrib

6. Arap toplumundaki hayat tarzına verilen isimler aşağıdakilerden hangisinde birlikte verilmiştir?

- A) Hadari - Mevali
B) Bedevi - Hadari
C) Umme - Hadari
D) Dâi - Bedevi

7. Aşağıdakilerden hangisi haram aylardan biri değildir?

- A) Zilkade
B) Zilhicce
C) Recep
D) Şaban

8. Hz. Muhammed hangi yaşlarda iken annesinin yanında kalmıştır?

- A) 1 - 3
B) 4 - 6
C) 6 - 8
D) 9 - 12

9. Hz. Muhammed vahye muhatap olduktan sonra eşi Hz. Hatice ile birlikte aşağıdaki hangi kişiye giderek yaşadıklarını anlatmıştır?

- A) Ümmü Seleme
B) Mutim bin Adiyun
C) Varaka bin Nevfel
D) Habeş Necaşisi Ashame

10. Hicretten sonra Hz. Muhammed Medine halkına, savaşlara kimlerin katılacağına karar verme yetkisinin kendisine ait olduğunu, Müslüman olsun ya da olmasın herkesin eşit haklara sahip olacağını, ayrıca dış baskılara karşı da birlikte hareket edileceğini duyurmuştur.

Hz. Muhammed'in Medine halkına yaptığı bu duyuru, aşağıdakilerden hangisine kanıt olarak gösterilebilir?

- A) Mekke'nin fethedildiğine
B) Askerliğin meslek hâline geldiğine
C) Yeni bir devletin temelini atıldığına
D) İslam dininin Kuzey Afrika'ya yayıldığına

11. İslam ordusu, aşağıdaki savaşların hangisinde, askerlerin kendisine verilen emirlere uymayarak görev yerlerini terk etmeleri nedeniyle başarı kazanamamıştır?

- A) Uhut
B) Hendek
C) Huneyn
D) Pasinler

1. OTURUM

12. Hz. Muhammed, aşağıdakilerin hangisinin kolları arasında "ma'r'rifiki'l a'la" (en yüce dost) diyerek vefat etmiştir?

- A) Hz. Ebu Bekir B) Hz. Hatice
C) Hz. Aişe D) Hz. Ali

13. "Her bir halifenin göreve gelmesi, İslam'ın koyduğu ölçüler içinde gerçekleşmiş,I..... veII..... seçim sisteminin temel ilkeleri olmuştur."

Verilen bilgi cümlesinin anlamca doğru olabilmesi için numaralandırılarak boş bırakılan yerlere, aşağıdaki seçeneklerden hangisi yazılmalıdır?

- | | I | II |
|----|---------|-------|
| A) | şura | biat |
| B) | dâi | cihat |
| C) | gaza | gazve |
| D) | Muhacir | Ensar |

14. Müslümanlığı bırakıp başka bir dine geçmiş olan kimseye ne isim verilir?

- A) Mürteci B) Mürted
C) Mürsel D) Mürîd

15. Sıffin Savaşı hangi halife döneminde meydana gelmiştir?

- A) Hz. Ebubekir B) Hz. Ömer
C) Hz. Osman D) Hz. Ali

16. İspanya'da kurulan ilk İslam devleti, aşağıdakilerden hangisidir?

- A) Eyyubi Devleti
B) Abbasi Devleti
C) Samanoğulları Devleti
D) Endülüs Emevi Devleti

17. Müslüman olmaları hâlinde kendilerinden haraç alınmayacağını belirtmesi üzerine, Kuzey Afrika'daki Berberiler ile Maveraünnehir Bölgesi'ndeki kavimlerin Müslüman olmasına vesile olan Emevi halifesi, aşağıdakilerden hangisidir?

- A) Ömer b. Abdülaziz
B) Mervan b. Hakem
C) Abdülmelik b. Mervan
D) Süleyman b. Abdülmelik

18. Emevilerin yıkılış nedenleri arasında aşağıdakilerden hangisi yer almaz?

- A) Arap milliyetçiliği yapmaları
B) Mevaliye iyi davranmamaları
C) Atabeylerin bağımsızlıklarını ilan etmeleri
D) Hilafet makamını elde etmek için yapılan mücadeleler

19. İbn Rüş'tün öğrencisi olan Yahudi İbn Meymun'un yetkin olduğu bilim dalı, aşağıdakilerden hangisidir?

- A) Astronomi B) Felsefe
C) Kimya D) Fizik

20. Maliki mezhebini Endülüs'ün resmî mezhebi ilan eden Endülüs Emevi emiri aşağıdakilerden hangisidir?

- A) I. Abdurrahman
B) II. Abdurrahman
C) I. Hakem
D) I. Hişam

(813) AKAİD VE KELAM – 1

1. İlk inen ayetlerin ana vurgusu aşağıdakilerden hangisine olmuştur?

- A) Allah inancı
B) Meleklerle iman
C) Ahiret
D) Nübüvvet

2. Kur'an-ı Kerim'de Yahudi ve Hristiyanları müşriklerden ayırt etmek için "Tevrat, Zebur ve İncil'e inananlar" anlamında aşağıdaki kavramlardan hangisi kullanılmaktadır?

- A) Münafık
B) Ehl-i suffe
C) Ehl-i kitap
D) Ashab-ı kehf

3. Aşağıdakilerden hangisi Allah'ın varlığı ve birliği konusundaki delillerin amaçlarından biri değildir?

- A) Doğabilecek şüpheleri gidermek
B) Mümini imanında sağlamlaştırmak
C) İnsanın dünya ve ahiret mutluluğunu sağlamak
D) İbadetlerin nasıl yapılacağını insanlara öğretmek

4. Âlemin varlığının zorunlu değil, mümkün olduğu fikrinden yola çıkılarak ortaya konan akli delil aşağıdakilerden hangisidir?

- A) Hudûs
B) İmkân
C) Gaye ve nizam
D) Naklî

5. Aşağıdakilerden hangisi Allah'ın zati sıfatlarından biridir?

- A) Kıdem B) İlim
C) Basar D) Kudret

6. Yalnızca Allah'a iman eden bir insanda aşağıdaki davranışlardan hangisinin bulunması yanlıştır?

- A) Mal, mevki ve şöhrete tapmaktan kaçınması
B) Rızkı verenin yalnızca Allah olduğunu bilmesi
C) Yiğitlik, cesaret gibi duygulara sahip olması
D) Türbelerden medet umması

7. "Sûr'a üflenir ve Allah'ın dilediği kimseler dışında göklerdeki herkes ve yerdeki herkes ölür. Sonra ona bir daha üflenir, bir de bakarsın onlar kalkmış bekliyorlar."

(Zümer suresi, 68. ayet)

Bu ayette aşağıdaki meleklerden hangisinin görevinden bahsedilmektedir?

- A) Mikâil B) İsrail
C) Ridvan D) Cebrail

8. Melekler ile ilgili aşağıdaki bilgilerden hangisi yanlıştır?

- A) Ateşten yaratılmışlardır.
B) Farklı suretlere bürünebilirler.
C) İnsanlardan önce yaratılmışlardır.
D) Devamlı Allah'a itaat ve ibadet ile meşgul olurlar.

9. "Süleyman'ın ölümüne hükmettiğimiz zaman, onun ölümünü onlara ancak değneğini yemekte olan bir kurt gösterdi. Süleyman'ın cesedi yıkılınca cinler anladılar ki, eğer gaybı bilmiş olsalardı aşağılayıcı azap içinde kalmamış olacaktı."

(Sebe suresi, 14. ayet)

Bu ayette cinlerin hangi özelliğine vurgu yapılmaktadır?

- A) Yalın bir ateşten yaratılmışlardır.
B) Erkek ve dişilik özellikleri vardır.
C) Gaybı bilme gibi bir özellikleri yoktur.
D) İnanma ve inanmama konusunda irade sahibidirler.

1. OTURUM

(931) SİYER – 1

10. Arşı taşımakla görevli melekler aşağıdakilerden hangisidir?

- A) Hamele-i arş B) Rıdvan
C) Mukarrebun D) Kiramen Kâtibin

11. Sözlükte; yol, hüküm, itaat, mükâfat ve ceza anlamına gelir. Terim olarak, esasları ve usulleri Allah tarafından belirlenmiş yol demektir.

Tanımlanan kavram aşağıdakilerden hangisidir?

- A) Kelam B) Din
C) Fıkıh D) Hadis

12. • İnsanlar arasındaki hukuki, beşeri ve sosyal ilişkileri düzenleyen hükümlerdir.

• Esasları Kur'an ve sünnette vardır.

Özellikleri verilen kavram aşağıdakilerden hangisidir?

- A) İbadet B) İnanç
C) İtikat D) Muâmelat

13. "Göklerde ve yerde ne varsa, O'nundur, din de yalnız O'nundur. O halde Allah'tan başkasından mı korkuyorsunuz?"

(Nahl suresi, 52. ayet)

Bu ayetten aşağıdakilerden hangisine ulaşamaz?

- A) Her şeyin yaratıcısı Allah'tır.
B) Dinin sahibi yalnızca Allah'tır.
C) Allah'tan başkasına kulluk edilmez.
D) Allah'ın gönderdiği son kitap Kur'an'dır.

14. Aşağıdakilerden hangisi akaid ve kelamın amaçları arasında yer almaz?

- A) İnanç ilkelerini belirlemek
B) İnanç ilkelerini savunmak
C) İnanç ilkelerini anlamak ve yorumlamak
D) İnanç ilkelerini delillendirmek ve ispat etmek

15. Öğretmen, Akaid ve Kelam dersinde öğrencilerine; "Mü'min olmak için sadece bilmek yeterli olsaydı Yahudi ve Hristiyanlar'ın Hz. Peygamber'i, Şeytan'ın da Allah'ı bildiği için mü'min olmaları gerekirdi." demiştir.

Buna göre öğretmen aşağıdaki kavramlardan hangisini vurgulamaktadır?

- A) Din B) İman
C) Ahlak D) İbadet

16. İbrahim ölüleri nasıl dirilttiğini göstermesini Yüce Allah'tan istemiş, Yüce Allah'ın "inanmadın mı?" sorusuna, "Hayır! İnanırım fakat kalbimin mutmain olması için (görmek istedim)." cevabını vermiştir.

Anlatılan bu olay, iman konusunda aşağıdakilerin hangisine delil oluşturur?

- A) İmanın artması ve eksilmesine
B) İmanda tasdik ve ikrar ilişkisine
C) İman ve amel ilişkisine
D) İman ve İslam ilişkisine

17. Kalbinde zerre ölçüsü iman olduğu halde "Allah'tan başka ilah yoktur. Muhammed onun elçisidir." diyen kimse cehennemden çıkar.

Bu hadisten, aşağıdakilerden hangisi çıkarılmaz?

- A) İmanda ikrar önemlidir.
B) İman eden kimseler cennete ödüllendirilecektir.
C) İman eden kimseler asla cehenneme girmezler.
D) İman edenler cehennemde ebedi kalmayacaktır.

18. Aşağıdakilerden hangisi iman çeşitlerinden değildir?

- A) İcmali B) Tafsili
C) Tahkiki D) Tevkifi

19. Allah'a, Hz. Peygamber'e ve onun haber verdiği şeylere kalpten inan, onları kabul ve tasdik eden kimseye ne ad verilir?

- A) Müşrik B) Münafık
C) Mümin D) Kâfir

20. Büyük günah işleyen kimsenin iman açısından durumu, kelam mezhepleri arasında önemli bir tartışma konusudur.

Buna göre, aşağıdakilerden hangisi Mutezile mezhebinin bu konudaki görüşüdür?

- A) Büyük ve küçük günah ayrımı yoktur, günah işleyen herkes imanını kaybeder.
B) Büyük günah işleyen kimse imanını kaybeder, fâsik adını alır ancak küfre de girmez.
C) Büyük günah işleyen kimseler asla cennete giremez.
D) Büyük günah işleyen kimse dinlenir çıkarılmaz.

1. Aşağıdakilerden hangisi Hz. Peygambere vahiy geldikten sonra gerçekleşmiştir?

- A) Hz. Ayşe ile evlenmesi
B) Hilfu'l-Fudul'a katılması
C) Ficar savaşına katılması
D) Amcasıyla ticaret yapması

2. Hz. Peygamber aşağıdaki çocuklarının hangisinden önce vefat etmiştir?

- A) Ümmü Gülsüm B) Zeynep
C) Rukiye D) Fatıma

3. Hz. Muhammed (sav.) çocukluğunu yanında geçirdiği Ebu Talib'in hanımı Fatıma binti Esed'i ve dadısı Ümmü Eymen'i her zaman hayırla yâd etmiş ve onlarla ilgilenmiştir.

Hız Peygamberin bu davranışı onun hangi özelliğini ön plana çıkarmaktadır?

- A) Doğruluğunu B) Güvenirliliğini
C) Vefakârlığını D) Cömertliğini

4. • Putperestliği reddetmiştir.
• Hz. Hatice'nin amcasının oğludur.
• Yahudilik ve Hristiyanlık hakkında bilgi sahibidir

Hakkında bilgi verilen kişi aşağıdakilerden hangisidir?

- A) Hz. Ebu Bekir
B) Varaka b. Nevfel
C) Ömer b. Hattap
D) Abdullah b. Selam

5. Aşağıdakilerden hangisi Hz. Muhammed (sav.)'e indirilen ilk ayetlerden biri değildir?

- A) "Yaratan Rabbinin adıyla oku!" (Alak suresi, 1. ayet)
B) "O, insanı "alak"tan yarattı". (Alak suresi, 2. ayet)
C) "Şüphesiz dönüş ancak Rabbinedir." (Alak suresi, 8. ayet)
D) "O, kalemle yazmayı öğretendir, insana bilmediğini öğretendir." (Alak suresi, 4-5. ayet)

6. İslam öncesi Arap Yarımadası'nda hâkim dini inanç aşağıdakilerden hangisidir?

- A) Haniflik B) Yahudilik
C) Hristiyanlık D) Putperestlik

1. OTURUM

7. Aşağıdaki âlimlerden hangisinin Hz. Peygamber'in hayatı ile ilgili yazılmış bir eseri yoktur?

- A) Muhammed Hamidullah
B) Muhammed Hamdi Yazır
C) Mehmet Asım Köksal
D) İbrahim Sarıçam

8. Aşağıdakilerden hangisi Hicaz Bölgesi şehirlerinden biri değildir?

- A) Mekke B) Medine
C) Basra D) Taif

9. Mekke müşriklerin İslam'ı kabul etmemelerinde aşağıdakilerden hangisi daha çok etkili olmuştur?

- A) Atalarının dinlerine olan bağlılıkları
B) İslam'ın ahiret inancına yer vermesi
C) İslam'ın kabilecilik anlayışını reddetmesi
D) Hz. Muhammed (sav.)'i peygamberliğe layık görmemeleri

10. Aşağıdakilerden hangisi müşriklerin İslam'ı kabul etmeme nedenlerinden biri değildir?

- A) Ahiret inancının olmayışı
B) Atalarının dinine bağlılıkları
C) Hz. Peygamber'in güvenilir olması
D) Toplumsal yapının değişmesini istememeleri

11.

İslam'ı İlk Kabul Edenler	
Aile Bireylerinden	Hiz. Hatice
Yakın Arkadaşlarından	Zeyd b. Harise
Kölelerden	Hiz. Ebu Bekir
Çocuklardan	Hiz. Ali

Tablodaki isimlerden hangileri birbirleri ile yer değiştirirse yanlışlık giderilmiş olur?

- A) Hiz. Hatice - Hiz. Ali
B) Zeyd b. Harise - Hiz. Ebu Bekir
C) Hiz. Ebu Bekir - Hiz. Ali
D) Hiz. Hatice - Zeyd B. Harise

12. Mekke müşriklerce ağır işkence görüp şehit olan ilk kadın kimdir?

- A) Hiz. Hatice B) Hiz. Fatıma
C) Hiz. Sümeyye D) Hiz. Hacer

13. Mekke döneminde Hz. Peygamber'in baş muhalifleri aşağıdakilerden hangisidir?

- A) Mele üyeleri B) Mevali
C) Fakirler D) Köleler

14. Aşağıdakilerden hangisi Müslümanların hicret için Habeşistan'ı seçme sebeplerinden biri değildir?

- A) Müşriklerin baskısından uzak bir konumda olması
B) Bereketli topraklara sahip olması
C) Halkının Hristiyan olması
D) Hükümdarının adil olması

15. • Darü'l- Erkam'da Müslüman olan son kişidir.

- Onun İslam'ı kabul etmesi ile birlikte Müslümanlar açıktan ibadet etmeye başlamışlardır.

Hakkında bilgi verilen sahabe aşağıdakilerden hangisidir?

- A) Hiz. Ömer B) Hiz. Ebu Bekir
C) Hiz. Hamza D) Hiz. Osman

16. Aşağıdakilerden hangisi müşriklerin Müslümanlara boykot uygulama nedenlerinden biri değildir?

- A) Müslümanların sayılarının giderek artması
B) Hiz. Hamza ve Hiz. Ömer'in Müslüman olmaları
C) Habeşistan kralının Müslümanları iyi karşılaması
D) Müslümanlar ile müşriklerin farklı kabilelerden olmaları

17. Aşağıdakilerden hangisi müşriklerin Müslümanlara karşı aldığı boykot kararlarından biri değildir?

- A) Alışveriş yapılmayacak
B) Kız alınıp verilmeyecek
C) Merhamet gösterilmeyecek
D) Mallarına el konulmayacak

18. Hüzün Yılı adı verilen 620 yılında Hz. Peygamber aşağıdaki yakınlarından hangilerini kaybetmiştir?

- A) Ebu Talip - Hiz. Hamza
B) Hiz. Hamza - Hiz. Zeynep
C) Ebu Talip - Hiz. Hatice
D) Hiz. Zeynep - Hiz. Hatice

19. "Kendisine ayetlerimizden bir kısmını gösterelim diye kulu (Muhammed'i) bir gece Mescid-i Haram'dan çevresini bereketlendirdiğimiz Mescid-i Aksa'ya götüren Allah'ın şanı yücedir..." (İsra suresi, 1. ayet)

Bu ayette hakkında bilgi verilen olay aşağıdakilerden hangisidir?

- A) İsra B) Hicret
C) Biat D) Mevlit

20. Aşağıdaki ayetlerden hangisinin nazil olmasıyla "yakın çevreye davet dönemi" başlamıştır?

- A) Ankebut suresi, 1-5. ayetler
B) Müddessir suresi, 1-5. ayetler
C) Yâsîn suresi, 1-5. ayetler
D) Bakara suresi, 1-5. ayetler

(974) GİRİŞİMCİLİK – 1

1. Tüm işletmelerde birimlerin çalışırken birbirleri ile uyumlu olması şartı, yönetimin temel işlevlerinden hangisi ile ilgilidir?

- A) Planlama
B) Organizasyon
C) Koordinasyon
D) Sevk ve idare

2. Daha önceden üretilip, üretimde kullanılan tüm değerlerin karşılığı aşağıdakilerden hangisidir?

- A) Emek
B) Üretim
C) Sermaye
D) Doğal kaynaklar

3. Fırsat müteşebbisliği türünde, aşağıdakilerden hangisi yapılmaz?

- A) Pazar fırsatlarını değerlendirmek.
B) Piyasaya herkesten önce girmek.
C) Yeni bir buluş üzerinde çalışmak.
D) İhtiyaç duyulan malları önceden fark etmek.

4. Aşağıdakilerden hangisi, müteşebbisin ekonomik bir kaynak olduğunu göstermez?

- A) Risk alması
B) Kâr amacı gütmemesi
C) Mal ve hizmet üretmeyi hedeflemesi
D) Üretim faktörlerini bir araya getirmesi

1. OTURUM

5. Aşağıdakilerden hangisi, dünyada müteşebbisliğin önemli bir konuma sahip olmasının nedenlerinden biri değildir?

- A) İthalatın artmasını sağlar.
- B) İşsizlikle mücadele eder.
- C) Bilimin gelişmesini sağlar.
- D) Kamu hizmetlerinin kalitesini artırır.

6. Bilim adamı Abraham H. Maslow'un ihtiyaç hiyerarşisine göre, diğer bütün gereksinimlerini karşılayan insanlarda görülebilecek ihtiyaç hangisidir?

- A) Fizyolojik
- B) Başarma
- C) Saygı
- D) Ait olma

7. Başka fiziksel malların yapımı için kullanılan, temel özellikleri kısmen yada tamamen değişen mal türü aşağıdakilerden hangisidir?

- A) Hammaddeler
- B) İşletme gereçleri
- C) Yatırım donatım malları
- D) Üretim gereçleri ve parçaları

8. Aşağıdakilerden hangisi arz kapsamında değerlendirilecek özelliklerden biridir?

- A) Kâr sağlama
- B) Topluma hizmet etme
- C) İşletmenin yaşamını sürdürme
- D) Belli bir fiyat karşılığının olması

9. Bir işletmenin iş güvenliği ile ilgili yapacakları, aşağıda verilenlerden hangisi kapsamında planlanmalıdır?

- A) İşletmenin işlevleri
- B) İşletmenin özellikleri
- C) İşletmenin özel amaçları
- D) İşletmenin genel amaçları

10. Aşağıdakilerden hangisi, işletme yönetiminde başarılı bir yöneticinin "Destekleyicilik" niteliğini göstermektedir?

- A) Tutarlı davranışlar gösterme
- B) Kişisel heyecanını kanıtlama
- C) Başarıyı arama, bulma ve kullanma
- D) Etkileme ve duygularını anlayabilme

11. Üretim yönetimi dönüşüm sürecinde aşağıdakilerden hangisi çıktı olarak kabul edilir?

- A) Emek
- B) Sermaye
- C) Girişimci
- D) Hizmetler

12. Aşağıdakilerden hangisi müteşebbislerin teminat altına alınmış haklarından biri değildir?

- A) İstedığı kâr elde etme hakkı
- B) Sözleşme yapma hakkı
- C) Meslek seçme hakkı
- D) Mülkiyet hakkı

13. Aşağıdakilerden hangisi planlamada uyulacak kural olarak görülmez?

- A) Uygun bir süreyi kapsamalıdır.
- B) Kesin uygulanabilir olmalıdır.
- C) Basit ve anlaşılır olmalıdır.
- D) Dengeli olmalıdır.

14. Aşağıdakilerden hangisi etkili denetimin ilkelerine aykırı bir açıklamadır?

- A) Denetleme esnek olmalıdır.
- B) Denetleme gizli olmalıdır.
- C) Denetleme şekli işletmeye uygun olmalıdır.
- D) Denetlenme standartları önceden belirlenmelidir.

15. Aşağıdakilerden hangisi bir işletmenin şirket olma şartlarına uygun değildir?

- A) Ortak bir amaç olmalıdır.
- B) Ortaklar arası bir anlaşma olmalıdır.
- C) Şirket kuranların sayısı en az bir olmalıdır.
- D) Ortak üretim elemanlarına sahip olmalıdır.

16. Aşağıdakilerden hangisi İktisadi Devlet Teşekkülü değildir?

- A) Boru Hatları ile Petrol Taşıma AŞ
- B) Türkiye Kömür İşletmeleri
- C) Devlet Malzeme Ofisi
- D) Türkiye Cumhuriyeti Devlet Demiryolları

17. Limitet şirketler en az kaç ortak tarafından kurulabilir?

- A) 2
- B) 4
- C) 6
- D) 10

18. Satış sürecinin aşamalarıyla ilgili olarak aşağıda verilenlerden hangisi yanlıştır?

- A) Satışın gerçekleştirilmesi
- B) İlginin isteğe dönüşmesi
- C) İsteğin arza dönüşmesi
- D) Dikkat çekme

19. Seçici talebi yaratmaya yönelik bir reklam, aşağıda verilen reklam çeşitlerinden hangisi açısından değerlendirilmelidir?

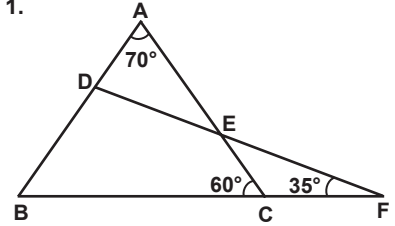
- A) Reklam içeriği açısından
- B) Hedef kitle açısından
- C) Yapanlar açısından
- D) Amaçlar açısından

20. Sosyal sorumluluk ile ilgili kalite belgesi aşağıdakilerden hangisidir?

- A) ISO 8000
- B) ISO 9000
- C) ISO 14000
- D) ISO 22000

(999) MATEMATİK – 2

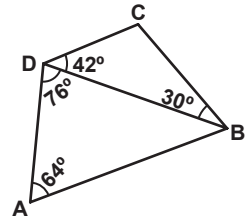
1.



Şekildeki ABC ve DBF üçgenlerinde $m(\widehat{ACB}) = 60^\circ$, $m(\widehat{DFB}) = 35^\circ$ ve $m(\widehat{BAC}) = 70^\circ$ olduğuna göre $m(\widehat{BDF})$ kaç derecedir?

- A) 85
- B) 95
- C) 100
- D) 105

2.

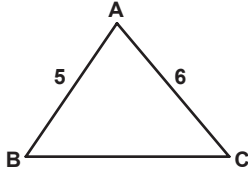


Şekilde verilenlere göre en uzun kenar aşağıdakilerden hangisidir?

- A) [BD]
- B) [AD]
- C) [BC]
- D) [AB]

1. OTURUM

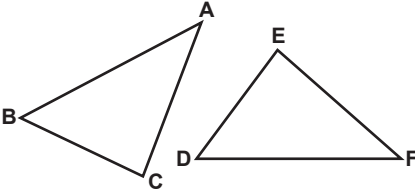
3.



Şekildeki ABC üçgeninde $|AB| = 5$ cm, $|AC| = 6$ cm olduğuna göre $|BC|$ 'nin alabileceği en büyük tam sayı değeri kaç santimetredir?

- A) 8 B) 9 C) 10 D) 11

4.

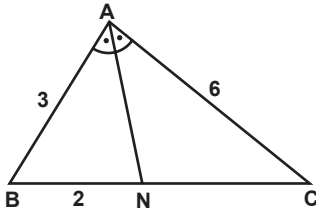


Şekilde $\widehat{BCA} \cong \widehat{DEF}$ 'tir.

$|BA| = (2x - 2)$ cm ve $|DF| = (3x - 5)$ cm olduğuna göre $|AB|$ kaç santimetredir?

- A) 2 B) 4 C) 6 D) 8

5.

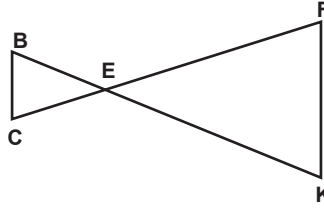


Şekildeki ABC üçgeninde $[AN]$, \widehat{BAC} 'nin açıortayıdır.

$|AB| = 3$ cm, $|AC| = 6$ cm ve $|BN| = 2$ cm olduğuna göre $|AN|$ kaç santimetredir?

- A) $\sqrt{10}$ B) $2\sqrt{3}$
C) $\sqrt{14}$ D) $3\sqrt{2}$

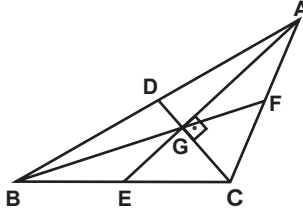
6.



Şekilde $\widehat{BEC} \sim \widehat{KEF}$ olduğuna göre aşağıdaki orantılardan hangisi doğrudur?

- A) $\frac{|BE|}{|EF|} = \frac{|BC|}{|KE|}$
B) $\frac{|EC|}{|EF|} = \frac{|KF|}{|BC|}$
C) $\frac{|CB|}{|EK|} = \frac{|CE|}{|EB|}$
D) $\frac{|BC|}{|KF|} = \frac{|BE|}{|KE|}$

7.

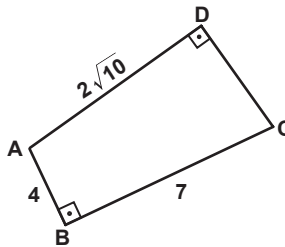


Şekildeki ABC üçgeninde $[AE]$, $[CD]$ ve $[BF]$ kenarortaylarının kesim noktası G'dir.

$|BG| = 12$ cm ve $m(\widehat{AGC}) = 90^\circ$ olduğuna göre $|AF|$ kaç santimetredir?

- A) 4 B) 6 C) 9 D) 10

8.

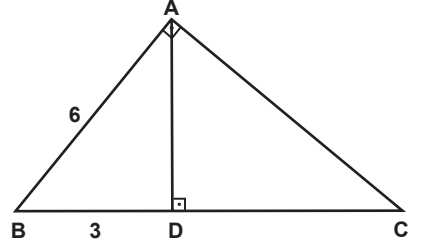


Şekildeki ABCD dörtgeninde $[AD] \perp [DC]$ ve $[AB] \perp [BC]$ 'tir.

$|DA| = 2\sqrt{10}$ cm, $|AB| = 4$ cm ve $|BC| = 7$ cm olduğuna göre $|DC|$ kaç santimetredir?

- A) 3 B) $3\sqrt{2}$ C) 5 D) 6

9.

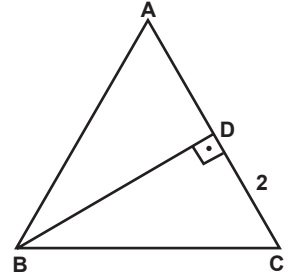


Şekildeki ABC üçgeninde $[AB] \perp [AC]$ ve $[AD] \perp [BC]$ 'tir.

$|AB| = 6$ cm ve $|BD| = 3$ cm olduğuna göre $|DC|$ kaç santimetredir?

- A) 2 B) 6 C) 9 D) 12

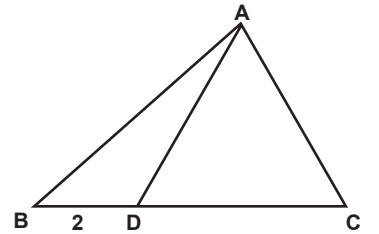
10.



Şekildeki ABC eşkenar üçgeninde $[BD] \perp [AC]$ ve $|DC| = 2$ cm olduğuna göre $|DB|$ kaç santimetredir?

- A) $\frac{2\sqrt{3}}{3}$ B) $2\sqrt{3}$
C) $3\sqrt{2}$ D) 4

11.



Şekildeki ADC üçgeni eşkenar üçgendir.

$|BD| = 2$ cm ve $|BC| = 6$ cm olduğuna göre $|AB|$ kaç santimetredir?

- A) $2\sqrt{7}$ B) $4\sqrt{2}$
C) $\sqrt{35}$ D) $2\sqrt{5}$

1. OTURUM

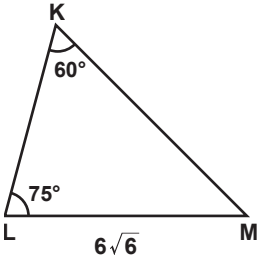
12. $\sin 110^\circ$, $\cos 230^\circ$, $\tan 55^\circ$ ve $\cot 289^\circ$ değerlerinin işaretleri sırasıyla aşağıdakilerden hangisinde verilmiştir?

A) +, +, +, + B) +, -, -, +
C) +, -, +, - D) -, +, -, +

13. $\sin 150^\circ \cdot \cot 150^\circ$ işleminin sonucu kaçtır?

A) $-\frac{\sqrt{3}}{2}$ B) $-\frac{1}{2}$
C) $\frac{1}{2}$ D) $\frac{\sqrt{3}}{2}$

14.

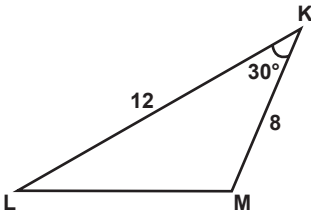


Şekildeki KLM üçgeninde $m(\widehat{MKL}) = 60^\circ$, $m(\widehat{KLM}) = 75^\circ$ ve $|LM| = 6\sqrt{6}$ cm'dir.

Buna göre $|KL|$ kaç santimetredir?

A) 6 B) 8 C) 10 D) 12

15.

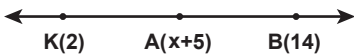


Şekildeki KLM üçgeninde $m(\widehat{MKL}) = 30^\circ$, $|KL| = 12$ cm ve $|KM| = 8$ cm'dir.

Buna göre $A(\widehat{KLM})$ kaç santimetrekaredir?

A) 12 B) 24 C) 48 D) 96

16.



Şekildeki sayı doğrusunda K(2), A(x+5), B(14) ve $2|\overrightarrow{KA}| = |\overrightarrow{KB}|$ 'tir.

Buna göre x kaçtır?

A) 2 B) 3 C) 4 D) 5

17. P(6) ve R(13) noktaları veriliyor.

Buna göre $|\overrightarrow{PR}|$ kaç birimdir?

A) 19 B) 13 C) 7 D) 6

18. Bir şehrin beş günlük sıcaklık değerleri 24°C , 15°C , 13°C , 17°C ve 11°C 'dir.

Buna göre bu şehrin beş günlük sıcaklık değerlerinin aritmetik ortalaması kaç $^\circ\text{C}$ 'dir?

A) 16 B) 15 C) 14 D) 13

19. 1, 5, 4, 3, 5, 3, 7, k, 6, 2, 3 veri grubunun ortanca değeri 4 olduğuna göre k aşağıdakilerden hangisi olamaz?

A) 2 B) 4 C) 8 D) 16

20. Bir madeni para 6 kez havaya atılıyor.

Buna göre paranın üst yüzüne dört kez yazı, iki kez tura gelme olasılığı kaçtır?

A) $\frac{3}{32}$ B) $\frac{5}{32}$ C) $\frac{11}{64}$ D) $\frac{15}{64}$

**TEST BİTTİ.
CEVAPLARINIZI KONTROL
EDİNİZ.**

CEVAP KÂĞIDI VE SORU KİTAPÇIĞI İLE İLGİLİ AÇIKLAMALAR

1. Cevap kâğıdınızdaki bilgilerin doğruluğunu kontrol ediniz ve cevap kâğıdınızı mürekkepli kalemle imzalayınız.
2. Cevap kâğıdı üzerinde kodlamalarınızı siyah kurşun kalemle yapınız.
3. Değiştirmek istediğiniz bir cevabı, yumuşak silgiyle cevap kâğıdını örselemeden temizce siliniz ve yeni cevabınızı kodlayınız.
4. Soru kitapçığının sayfalarını görevlilerin uyarıları doğrultusunda kontrol ediniz, baskı hatası var ise değiştirilmesini sağlayınız.
5. Soruların çözümü için size ayrıca boş kâğıt verilmeyecektir. Soru kitapçığının içindeki boş alanları soru çözümleri için kullanabilirsiniz.
6. Her sorunun dört seçeneğinden sadece biri doğrudur. Doğru seçeneği, cevap kâğıdınızın ilgili sütununa soru numarasını dikkate alarak yuvarlağın dışına taşırmadan kodlayınız. Soru kitapçığı üzerinde yapılan cevaplandırmalar dikkate alınmayacaktır.
7. Cevaplamaya istediğiniz dersin sorusundan başlayabilirsiniz. Cevabını bilmediğiniz sorular üzerinde fazla zaman kaybetmeden diğer sorulara geçiniz. Zamanınız kalırsa bu sorulara daha sonra dönebilirsiniz.
8. Yanlış cevaplarınız dikkate alınmadan sadece doğru cevaplarınız üzerinden puanlama yapılacaktır.
9. Soruları ve sorulara verdiğiniz cevapları, yanınızda götürmek amacıyla kaydetmeyiniz; hiçbir şekilde dışarı çıkarmayınız.
10. Sınav bitiminde soru kitapçığı ve cevap kâğıdını salon görevlilerine teslim ediniz.

SALON GÖREVLİLERİNCE SINAV BAŞLAMADAN ÖNCE ADAYLARA YAPILACAK SON UYARILAR

- Soracağınız bir şey varsa şimdi sorunuz, sınav başladıktan sonra sorularınıza cevap verilmeyecektir.
- Başlama zilini bekleyiniz.

Hepinize başarılar dileriz.

(Salon başkanı başlama ve bitiş saatini tahtaya yazacaktır.)

Bu kitapçığın her hakkı saklıdır. Hangi amaçla olursa olsun, kitapçığın tamamının veya bir kısmının Millî Eğitim Bakanlığı Ölçme, Değerlendirme ve Sınav Hizmetleri Genel Müdürlüğünün yazılı izni olmadan kopya edilmesi, fotoğraflarının çekilmesi, bilgisayar ortamına alınması, herhangi bir yolla çoğaltılması, yayımlanması veya başka bir amaçla kullanılması yasaktır. Bu yasağa uymayanlar, doğabilecek cezai sorumluluğu ve kitapçığın hazırlanmasındaki mali külfeti peşinen kabullenmiş sayılır.

7-8 EKİM 2017 TARİHİNDE YAPILAN AÇIKÖĞRETİM LİSESİ / MESLEKİ AÇIKÖĞRETİM LİSESİ
2016-2017 ÖĞRETİM YILI EK SINAV 1. OTURUM T KİTAPÇIĞI CEVAP ANAHTARI

(111) DİN KÜL. AHL. BİL. – 1

1. D
2. B
3. C
4. A
5. B
6. A
7. C
8. D
9. B
10. B
11. A
12. C
13. D
14. A
15. C
16. D
17. A
18. D
19. B
20. A

(115) DİN KÜL. AHL. BİL. – 5

1. C
2. A
3. D
4. B
5. B
6. A
7. C
8. B
9. C
10. B
11. D
12. A
13. B
14. C
15. A
16. C
17. D
18. A
19. C
20. D

(123) SEÇMELİ FELSEFE – 1

1. C
2. A
3. D
4. C
5. B
6. C
7. D
8. B
9. A
10. D
11. C
12. B
13. C
14. B
15. D
16. A
17. A
18. D
19. A
20. B

(136) TARİH – 6

1. C
2. A
3. B
4. D
5. C
6. A
7. B
8. A
9. C
10. A
11. B
12. D
13. C
14. B
15. C
16. A
17. D
18. B
19. A
20. D

(112) DİN KÜL. AHL. BİL. – 2

1. C
2. A
3. B
4. C
5. D
6. C
7. D
8. C
9. A
10. D
11. B
12. D
13. B
14. D
15. A
16. C
17. B
18. D
19. A
20. B

(121) FELSEFE – 1

1. C
2. D
3. A
4. C
5. B
6. B
7. D
8. D
9. A
10. D
11. A
12. B
13. C
14. B
15. D
16. A
17. C
18. C
19. A
20. B

(132) TARİH – 2

1. C
2. A
3. B
4. A
5. C
6. B
7. D
8. C
9. D
10. D
11. A
12. B
13. B
14. C
15. D
16. A
17. C
18. C
19. A
20. D

(151) COĞRAFYA – 1

1. B
2. C
3. B
4. B
5. A
6. C
7. D
8. A
9. C
10. D
11. D
12. A
13. B
14. D
15. C
16. D
17. A
18. C
19. B
20. A

7-8 EKİM 2017 TARİHİNDE YAPILAN AÇIKÖĞRETİM LİSESİ / MESLEKİ AÇIKÖĞRETİM LİSESİ
2016-2017 ÖĞRETİM YILI EK SINAV 1. OTURUM T KİTAPÇIĞI CEVAP ANAHTARI

(155) COĞRAFYA – 5	(181) İNGİLİZCE – 1	(181) FRANSIZCA – 1	(244) ALMANCA – 5
1. A	1. B	1. C	1. D
2. C	2. D	2. A	2. A
3. B	3. C	3. D	3. B
4. A	4. C	4. B	4. C
5. B	5. A	5. D	5. D
6. D	6. D	6. A	6. C
7. D	7. B	7. C	7. A
8. B	8. A	8. B	8. B
9. B	9. B	9. B	9. D
10. C	10. D	10. D	10. C
11. A	11. C	11. C	11. C
12. C	12. A	12. D	12. D
13. D	13. D	13. A	13. B
14. B	14. A	14. C	14. C
15. A	15. B	15. B	15. A
16. B	16. D	16. D	16. B
17. C	17. A	17. B	17. A
18. D	18. C	18. A	18. B
19. A	19. D	19. D	19. D
20. C	20. A	20. C	20. A

(157) COĞRAFYA – 7	(181) ALMANCA – 1	(244) İNGİLİZCE – 5	(244) FRANSIZCA – 5
1. B	1. C	1. D	1. C
2. D	2. A	2. A	2. D
3. C	3. B	3. C	3. A
4. B	4. A	4. C	4. D
5. C	5. D	5. B	5. B
6. A	6. C	6. D	6. A
7. B	7. A	7. A	7. D
8. A	8. C	8. D	8. C
9. D	9. B	9. B	9. C
10. A	10. D	10. C	10. B
11. A	11. B	11. C	11. D
12. B	12. C	12. D	12. A
13. C	13. D	13. A	13. B
14. D	14. C	14. D	14. A
15. B	15. D	15. B	15. C
16. D	16. B	16. B	16. D
17. C	17. A	17. C	17. A
18. B	18. D	18. D	18. D
19. C	19. A	19. A	19. B
20. A	20. B	20. C	20. B

7-8 EKİM 2017 TARİHİNDE YAPILAN AÇIKÖĞRETİM LİSESİ / MESLEKİ AÇIKÖĞRETİM LİSESİ
2016-2017 ÖĞRETİM YILI EK SINAV 1. OTURUM T KİTAPÇIĞI CEVAP ANAHTARI

(401) DİL ve ANLATIM – 1

1. C
2. C
3. B
4. D
5. C
6. D
7. A
8. C
9. B
10. A
11. D
12. C
13. D
14. B
15. A
16. D
17. B
18. B
19. D
20. A

(407) DİL ve ANLATIM – 7

1. C
2. B
3. C
4. D
5. A
6. B
7. C
8. D
9. B
10. A
11. D
12. A
13. C
14. A
15. D
16. C
17. A
18. D
19. B
20. C

(414) TÜRK EDEBİYATI – 4

1. B
2. C
3. D
4. C
5. D
6. A
7. A
8. C
9. B
10. A
11. D
12. B
13. D
14. C
15. A
16. B
17. D
18. B
19. A
20. C

(418) TÜRK EDEBİYATI – 8

1. D
2. B
3. A
4. C
5. B
6. D
7. A
8. C
9. A
10. C
11. C
12. D
13. C
14. B
15. D
16. C
17. A
18. D
19. B
20. A

(402) DİL ve ANLATIM – 2

1. B
2. B
3. D
4. C
5. D
6. C
7. A
8. C
9. C
10. A
11. C
12. A
13. D
14. A
15. B
16. D
17. B
18. A
19. B
20. D

(408) DİL ve ANLATIM – 8

1. B
2. D
3. A
4. C
5. C
6. C
7. B
8. B
9. A
10. D
11. D
12. B
13. A
14. D
15. B
16. A
17. C
18. A
19. D
20. C

(417) TÜRK EDEBİYATI – 7

1. D
2. A
3. C
4. C
5. A
6. B
7. C
8. D
9. A
10. D
11. B
12. D
13. C
14. A
15. D
16. B
17. D
18. B
19. B
20. C

(421) FİZİK – 1

1. D
2. B
3. A
4. A
5. B
6. A
7. A
8. B
9. D
10. C
11. B
12. C
13. D
14. A
15. C
16. A
17. B
18. B
19. A
20. D

7-8 EKİM 2017 TARİHİNDE YAPILAN AÇIKÖĞRETİM LİSESİ / MESLEKİ AÇIKÖĞRETİM LİSESİ
2016-2017 ÖĞRETİM YILI EK SINAV 1. OTURUM T KİTAPÇIĞI CEVAP ANAHTARI

(425) FİZİK – 5

1. A
2. B
3. C
4. C
5. A
6. A
7. C
8. B
9. B
10. C
11. B
12. C
13. D
14. B
15. A
16. B
17. C
18. C
19. A
20. D

(436) KİMYA – 6

1. A
2. D
3. C
4. B
5. D
6. A
7. C
8. D
9. C
10. B
11. A
12. D
13. B
14. C
15. A
16. D
17. C
18. B
19. A
20. B

(443) BİYOLOJİ – 3

1. D
2. B
3. D
4. C
5. B
6. A
7. D
8. A
9. B
10. A
11. D
12. A
13. C
14. C
15. D
16. B
17. A
18. B
19. C
20. A

(461) EKONOMİ. – 1

1. B
2. B
3. B
4. C
5. A
6. D
7. C
8. B
9. A
10. C
11. A
12. A
13. B
14. C
15. B
16. B
17. D
18. C
19. C
20. A

(432) KİMYA – 2

1. C
2. D
3. B
4. B
5. A
6. A
7. C
8. C
9. D
10. C
11. A
12. C
13. B
14. D
15. B
16. C
17. D
18. A
19. D
20. B

(441) BİYOLOJİ – 1

1. C
2. D
3. B
4. B
5. D
6. A
7. A
8. C
9. B
10. D
11. A
12. A
13. C
14. D
15. B
16. B
17. C
18. D
19. C
20. A

(446) BİYOLOJİ – 6

1. C
2. B
3. D
4. A
5. B
6. D
7. A
8. B
9. C
10. B
11. D
12. A
13. A
14. C
15. D
16. C
17. C
18. D
19. B
20. A

(465) TEMEL DİNİ BİL.– 1

1. A
2. B
3. C
4. D
5. A
6. A
7. C
8. B
9. C
10. D
11. C
12. B
13. C
14. A
15. C
16. B
17. D
18. B
19. A
20. D

7-8 EKİM 2017 TARİHİNDE YAPILAN AÇIKÖĞRETİM LİSESİ / MESLEKİ AÇIKÖĞRETİM LİSESİ
2016-2017 ÖĞRETİM YILI EK SINAV 1. OTURUM T KİTAPÇIĞI CEVAP ANAHTARI

(477) İŞLETME – 2	(484) SAĞLIK BİLGİSİ – 2	(502) İNGİLİZCE – 8	(502) FRANSIZCA – 8
1. A	1. D	1. A	1. B
2. C	2. C	2. D	2. D
3. C	3. D	3. D	3. A
4. A	4. A	4. B	4. D
5. B	5. B	5. C	5. D
6. C	6. C	6. A	6. B
7. D	7. C	7. A	7. A
8. B	8. B	8. D	8. B
9. A	9. A	9. B	9. B
10. C	10. B	10. C	10. C
11. A	11. C	11. A	11. D
12. A	12. A	12. B	12. A
13. C	13. C	13. C	13. C
14. D	14. D	14. A	14. B
15. A	15. B	15. C	15. A
16. C	16. D	16. D	16. D
17. A	17. C	17. B	17. A
18. B	18. B	18. D	18. C
19. D	19. D	19. A	19. A
20. D	20. A	20. C	20. C

(479) MANTIK – 2	(491) TRAF. VE İLK YARD. – 1	(502) ALMANCA – 8	(511) FIKİH – 1
1. C	1. B	1. A	1. B
2. A	2. D	2. C	2. A
3. C	3. A	3. B	3. D
4. A	4. C	4. D	4. A
5. B	5. A	5. B	5. D
6. D	6. D	6. A	6. B
7. A	7. A	7. C	7. C
8. B	8. B	8. D	8. B
9. C	9. C	9. A	9. C
10. D	10. D	10. B	10. A
11. A	11. C	11. C	11. C
12. D	12. B	12. D	12. D
13. C	13. D	13. D	13. D
14. B	14. A	14. A	14. C
15. A	15. D	15. B	15. D
16. B	16. B	16. C	16. C
17. D	17. C	17. A	17. A
18. B	18. B	18. D	18. D
19. D	19. A	19. B	19. B
20. C	20. C	20. C	20. A

7-8 EKİM 2017 TARİHİNDE YAPILAN AÇIKÖĞRETİM LİSESİ / MESLEKİ AÇIKÖĞRETİM LİSESİ
2016-2017 ÖĞRETİM YILI EK SINAV 1. OTURUM T KİTAPÇIĞI CEVAP ANAHTARI

(532) HZ. MUHAMMED'İN HAY. – 2

1. D
2. A
3. D
4. C
5. B
6. D
7. C
8. A
9. B
10. D
11. C
12. D
13. A
14. B
15. B
16. A
17. D
18. B
19. A
20. C

(611) KARŞ. DİN. TARİHİ – 1

1. C
2. D
3. A
4. D
5. B
6. C
7. A
8. B
9. C
10. A
11. B
12. C
13. D
14. C
15. B
16. A
17. C
18. D
19. D
20. A

(618) SEÇ. DİL ve ANLA. – 8

1. D
2. A
3. C
4. B
5. D
6. B
7. D
8. A
9. A
10. C
11. C
12. C
13. A
14. A
15. B
16. D
17. B
18. B
19. A
20. B

(628) SEÇ. TÜRK ED. – 8

1. B
2. A
3. D
4. B
5. C
6. B
7. B
8. A
9. D
10. B
11. C
12. A
13. D
14. A
15. C
16. C
17. C
18. B
19. D
20. A

(609) MATEMATİK – 6

1. B
2. D
3. C
4. A
5. B
6. D
7. C
8. B
9. C
10. A
11. C
12. B
13. A
14. D
15. B
16. D
17. C
18. B
19. A
20. C

(617) SEÇ. DİL ve ANLA. – 7

1. B
2. A
3. C
4. B
5. D
6. A
7. C
8. B
9. D
10. C
11. B
12. A
13. C
14. D
15. B
16. A
17. D
18. C
19. A
20. C

(627) SEÇ. TÜRK ED. – 7

1. A
2. A
3. B
4. D
5. B
6. A
7. B
8. C
9. B
10. D
11. C
12. A
13. C
14. B
15. D
16. C
17. B
18. A
19. D
20. D

(711) İSLAM TARİHİ – 1

1. D
2. A
3. B
4. A
5. D
6. B
7. D
8. B
9. C
10. C
11. A
12. C
13. A
14. B
15. D
16. D
17. A
18. C
19. B
20. D

7-8 EKİM 2017 TARİHİNDE YAPILAN AÇIKÖĞRETİM LİSESİ / MESLEKİ AÇIKÖĞRETİM LİSESİ
2016-2017 ÖĞRETİM YILI EK SINAV 1. OTURUM T KİTAPÇIĞI CEVAP ANAHTARI

(813) AKAD VE KELAM – 1

1. A
2. C
3. D
4. B
5. A
6. D
7. B
8. A
9. C
10. A
11. B
12. D
13. D
14. A
15. B
16. A
17. C
18. D
19. C
20. B

(974) GİRİŞİMCİLİK – 1

1. C
2. C
3. C
4. B
5. A
6. B
7. A
8. D
9. C
10. D
11. D
12. A
13. B
14. B
15. C
16. D
17. A
18. C
19. D
20. A

(931) SİYER – 1

1. A
2. D
3. C
4. B
5. C
6. D
7. B
8. C
9. A
10. C
11. B
12. C
13. A
14. B
15. A
16. D
17. D
18. C
19. A
20. B

(999) MATEMATİK – 2

1. B
2. D
3. C
4. B
5. A
6. D
7. B
8. C
9. C
10. B
11. A
12. C
13. A
14. D
15. B
16. B
17. C
18. A
19. A
20. D