



AYLIK ÖĞRETİM LİSESİ / MESLEKİ AYLIK ÖĞRETİM LİSESİ
2016 - 2017 ÖĞRETİM YILI
3. DÖNEM SINAVI

3.
OTURUM

2 TEMMUZ 2017 Saat: 09.30

DERS KODU VE ADI	SAYFA	DERS KODU VE ADI	SAYFA	DERS KODU VE ADI	SAYFA
(113) DİN KÜL. AHL. BİL. - 3	3	(242) FRANSIZCA - 3	21	(478) MANTIK - 1	43
(114) DİN KÜL. AHL. BİL. - 4	4	(403) DİL VE ANLATIM - 3	22	(500) İNGİLİZCE - 6	44
(116) DİN KÜL. AHL. BİL. - 6	5	(405) DİL VE ANLATIM - 5	23	(500) ALMANCA - 6	45
(122) FELSEFE - 2	6	(406) DİL VE ANLATIM - 6	24	(500) FRANSIZCA - 6	46
(124) SEÇMELİ FELSEFE - 2	7	(413) TÜRK EDEBİYATI - 3	26	(503) SEÇMELİ TARİH - 3	47
(133) TARİH - 3	8	(416) TÜRK EDEBİYATI - 6	27	(504) SEÇMELİ TARİH - 4	48
(134) TARİH - 4	9	(426) FİZİK - 6	28	(505) SEÇMELİ COĞRAFYA - 3	50
(142) T.C. İNK. TAR. ATA. - 2	10	(427) FİZİK - 7	30	(506) SEÇMELİ COĞRAFYA - 4	51
(153) COĞRAFYA - 3	12	(428) FİZİK - 8	31	(533) HZ. MUHAMMED'İN HAY. - 3	52
(154) COĞRAFYA - 4	13	(433) KİMYA - 3	33	(534) HZ. MUHAMMED'İN HAY. - 4	54
(158) COĞRAFYA - 8	14	(434) KİMYA - 4	34	(542) TÜRK DİLİ VE ED. - 2	55
(163) MATEMATİK - 3	15	(435) KİMYA - 5	35	(608) DEM. VE İNSAN HAK. - 2	57
(165) MATEMATİK - 5	16	(445) BİYOLOJİ - 5	36	(615) SEÇ. DİL VE ANLA. - 5	58
(206) PSİKOLOJİ - 1	17	(448) BİYOLOJİ - 8	38	(616) SEÇ. DİL VE ANLA. - 6	59
(209) SOSYOLOJİ - 2	18	(452) ÇAĞ. TÜRK DÜN. TAR. - 2	39	(626) SEÇ. TÜRK ED. - 6	60
(242) İNGİLİZCE - 3	19	(462) EKONOMİ - 2	40	(975) GİRİŞİMCİLİK - 2	61
(242) ALMANCA - 3	20	(468) MATEMATİK - 8	42		

ADAYLARIN DİKKATİNE!

- Her ders için 20 soru bulunmaktadır. Bu oturumda **180** dakikalık cevaplama süreniz vardır. Sınav başladıktan sonra ilk **30** dakika tamamlanmadan dışarı çıkmayınız.
- Sınav sırasında çanta, cep telefonu, saat, kablosuz iletişim sağlayan cihazlar ve kulaklık, kolye, küpe, bilezik, yüzük, broş ve benzeri eşyalar ile her türlü elektronik ve/veya mekanik cihazları yanınızda bulundurmuyunuz. Bu araçları yanınızda bulundurmanız ve kopya çekmeye teşebbüs etmeniz hâlinde sınavınız geçersiz sayılacaktır.
- Başvuru şartlarını taşımadığınız hâlde sınava girmeniz, kopya çekmeniz, başka adayın sınav evrakını kullanmanız, geçerli kimlik belgenizi ve sınav giriş belgenizi ibraz edemediğiniz durumlarda sınavınız geçersiz sayılacaktır.
- Sınavın değerlendirilmesi aşamasında, bilgisayar ortamında yapılan kopya analizinde sistemin ikili ve/veya toplu kopya tespiti hâlinde sınavınız geçersiz sayılacaktır.
- Adaylar, sınav kurallarına ve salon görevlilerinin tüm uyarılarına uymak zorundadır. Kurallara ve uyarılara uymayan adayların sınavları geçersiz sayılacaktır.**
- Sınav başladıktan sonra adayların salon görevlileri ve birbirleri ile konuşmaları; kalem, silgi vb. şeyleri istemeleri yasaktır.
- Adaylar sınav süresince, sınav giriş belgesi ile geçerli kimlik belgelerinden birinin aslını (fotoğraflı nüfus cüzdanı, pasaport veya sürücü belgesi) masalarının üzerinde bulundurmamak zorundadır.
- Sınav evraklarını teslim etmeyen, soru kitapçıklarının sayfalarından bir kısmını eksik teslim edenlerin sınavları geçersiz sayılacaktır.**
- Sınav başlamadan önce kitapçığın arkasındaki açıklamaları okuyunuz.

BAŞLAYINIZ DENMEDEN SORU KİTAPÇIKLARINI AÇMAYINIZ.

(113) DİN KÜL. AHL. BİL. – 3

1. Kur'an hakkında en geniş açıklamaların ve ayrıntılı yorumların bulunabileceği kaynak aşağıdakilerden hangisidir?

- A) Mealler B) Hadisler
C) Tercümeleler D) Tefsirler

2. Hz. Peygamber ile ilgili aşağıdaki bilgilerden hangisi yanlıştır?

- A) Hem insan hem peygamberdir.
B) Peygamberlerin sonucusudur.
C) İnsanüstü bazı niteliklere sahiptir.
D) Kur'an-ı Kerim'i insanlara tebliğ etmiştir.

3. İnsanlar kendi akılları ile Allah'ın varlığını anlayabilirlerse de O'nun zatını kavrayamazlar. Allah'ın kendilerinden ne istediğini, O'na nasıl ibadet edeceklerini ve ölümden sonraki hayatı anlayamazlar. Bunun için yol göstericilere ihtiyaçları vardır.

Bu metin aşağıdaki sorulardan hangisine cevap oluşturur?

- A) Peygamberlik niçin gereklidir?
B) Peygamberlerin özellikleri nelerdir?
C) Dinde akli kullanmanın önemi nedir?
D) Dünya ve ahiret hayatının safhaları nelerdir?

4. Aşağıdakilerden hangisi Allah ile iletişim kurma yollarından biri değildir?

- A) Dua etmek
B) Tebliğ etmek
C) Tövbe etmek
D) Kur'an okumak

5. Yaratmak, bir şeyi yokluktan varlık sahasına çıkarmak, Allah'a mahsusur. Evreni ve evrendeki bütün varlıkları yaratan Allah'tır.

Bu cümlede Allah'ın hangi sıfatı açıklanmıştır?

- A) Hayat B) Kıdem
C) Beka D) Tekvin

6. Tövbe, kişinin yaptığı hatalardan, işlediği günahlardan vazgeçerek pişmanlık duyması ve bunları bir daha tekrarlamamaya karar vermesidir. Tövbe için özel bir yere, zamana veya aracıya ihtiyaç yoktur. Tövbe etmenin bazı şartları vardır.

Buna göre aşağıdakilerden hangisi bu şartlardan biri değildir?

- A) Günahı terk etmek
B) Yaptığına pişman olmak
C) Kandil gecelerinde yapmak
D) Bir daha yapmamaya karar vermek

7. Aşağıdakilerden hangisi Kur'an'da adı geçen peygamberler arasında yer almaz?

- A) Hz. Musa B) Hz. Şit
C) Hz. Yahya D) Hz. İlyas

8. Hz. Peygamber'in söz, fiil ve takrirlerini ifade eden kavram aşağıdakilerden hangisidir?

- A) Sünnet B) Hadis
C) Nafile D) Haber

9. "Onların ne etleri ne de kanları Allah'a ulaşır. Fakat O'na sadece sizin takvanız (Allah'a karşı gelmekten sakınmanız) ulaşır..."

(Hac suresi, 37. ayet)

Bu ayetle, kurban ile ilgili aşağıdakilerden hangisine değinilmiştir?

- A) Etleri ihtiyaç sahipleriyle paylaşılmalıdır.
B) Allah rızası için samimiyetle yapılmalıdır.
C) Çevre temizliğine özen gösterilmelidir.
D) Usulüne uygun yerine getirilmelidir.

10. "Ey iman edenler! Size bir fasık haber getirirse bilmeyerek bir topluluğa zarar verip yaptığınıza pişman olmamak için o haberin doğruluğunu araştırın."

(Hucurat suresi, 6. ayet)

Bu ayet aşağıdakilerden hangisinin önemine dikkat çekmektedir?

- A) Doğru bilgi
B) Doğru inanç
C) Doğru ibadet
D) Doğru davranış

11. Aşağıdakilerden hangisi farz ibadetlerden biri değildir?

- A) Oruç B) Namaz
C) Hac D) Sadaka

12. "Ya açar nazm-ı celilin bakarız yaprağına
Yahut üfler geçeriz bir ölünün toprağına
İnmemiştir hele Kur'an bunu hakkıyla bilin
Ne mezarlıkta okunmak ne de fal bakmak için."

M. Akif ERSOY

Bu dörtlükte Kur'an ile ilgili aşağıdakilerden hangisinin gerekliliği vurgulanmaktadır?

- A) Tebliğ etmenin
B) Saygı göstermenin
C) Anlayarak okumanın
D) Ölümler için okumanın

13. "Birden fazla ilah olsaydı kâinatta böyle mükemmel bir düzen olur muydu?" diyen Esra Öğretmen, bu sorusuyla öğrencilerinin dikkatini aşağıdakilerden hangisine çekmek istemiş olamaz?

- A) Evrenin yaratılışındaki düzenliliğe
B) Dünya'nın evren içindeki konumuna
C) Allah'ın varlığının ve birliğinin delillerine
D) Allah'ın evreni belirli bir düzene göre yarattığına

14. Allah'ın varlığının kendisinden olması ve var olmak için başka bir varlığa ihtiyaç duymamasıdır.

Tanımlanan zâti sıfat aşağıdakilerden hangisidir?

- A) Kıdem
B) Bekâ
C) Kıyam bi nefsihi
D) Muhâlefetu'n-li'l-Havâdis

15. Aşağıdakilerden hangisi suhuf gönderilen peygamberlerdendir?

- A) Hz. İlyas B) Hz. İsmail
C) Hz. Yakup D) Hz. İbrahim

16. Aşağıdakilerden hangisi namazın kılınış şartlarından değildir?

- A) Kıyam
B) İstikbal-i kible
C) Hadesten taharet
D) Necasetten taharet

3. OTURUM

17. Aşağıdakilerden hangisi meleklere özelliğinden değildir?

- A) Nurdan yaratılmışlardır.
- B) Erkeklik ve dişilikleri yoktur.
- C) İrade sahibi varlıklardır.
- D) Yemez, içmez ve uyumazlar.

18. Aşağıdaki kişilerden hangisine zekât verilemez?

- A) Dayı
- B) Amca
- C) Kardeş
- D) Dede

19. "Ey Muhammed! De ki: Ben de ancak sizin gibi bir beşerim. Ne var ki bana sizin ilahınız ancak bir tek ilahdır diye vahyolunuyor..."

(Kehf suresi, 110. ayet)

Bu ayette Hz. Muhammed'in (sav.) hangi yönü vurgulanmaktadır?

- A) Ahlaklı olması
- B) İnsan olması
- C) Yetim olması
- D) Tebliğde bulunması

20. Aşağıdakilerden hangisi ahiret hayatının aşamalarından değildir?

- A) Mahşer
- B) Hesap
- C) Mizan
- D) İmtihan

(114) DİN KÜL. AHL. BİL. – 4

1. I. Vazgeçilmez ve devredilemez haklardır.
II. Sosyal statüye göre belirlenir.
III. İnsan haklarının özüdür.
IV. Sonradan elde edilir.

Özgürlükler ile ilgili numaralanmış bilgilerden hangileri yanlıştır?

- A) I ve III.
- B) I ve IV.
- C) II ve III.
- D) II ve IV.

2. "Kim bir mümini bile bile öldürürse, onun cezası, içinde temelli kalacağı cehennemdir. Allah ona öfkelenmiş, onu lanetlemiş ve ona büyük bir azap hazırlamıştır."

(Nisa suresi, 93. ayet)

Bu ayet, aşağıdaki temel hak ve özgürlüklerden hangisi ile ilişkilidir?

- A) Eğitim
- B) Yaşam
- C) Din ve vicdan
- D) Özel yaşamın gizliliği

3. Aşağıdakilerden hangisi temel haklardan biri değildir?

- A) Haberleşme
- B) Sağlık
- C) Yaşam
- D) Eğitim

4. "Dinde zorlama yoktur..."

(Bakara suresi, 256. ayet)

"De ki: O Kur'an Rabbinizden gelen bir haktır. Artık dileyen iman etsin, dileyen inkâr etsin..."

(Kehf suresi, 29. ayet)

Bu ayetler aşağıdaki hak ve özgürlüklerden hangisine temel oluşturur?

- A) İbadet hakkı
- B) Eğitim hakkı
- C) İnanma hakkı
- D) Yaşam hakkı

5. Aşağıdakilerden hangisi matematik alanında ün yapmış İslam âlimlerinden biridir?

- A) Harezmi
- B) Uluğ Bey
- C) Piri Reis
- D) Ali Kuşçu

6. Sözlükte; gizli ve hızlı söz, işaret, ilham anlamına gelir. Dini terim olarak ise, Allah'ın peygamberlerine dilediklerini, özel bir şekilde bildirmesidir.

Tanımı verilen kavram aşağıdakilerden hangisidir?

- A) Ayet
- B) Sünnet
- C) Vahiy
- D) Hadis

7. "Kitabü's-Şifa" ve "El-Kanun fit-Tıp" adlı eserler aşağıdaki bilginlerden hangisine aittir?

- A) Piri Reis
- B) Ali Kuşçu
- C) Harezmi
- D) İbn-i Sina

8. I. Taklitçilikten uzaklaştırır.
II. Bilgisizlikten kaynaklanır.
III. İlimle ortadan kaldırılabilir.
IV. Toplumsal barışa katkı sağlar.

Taassup hakkında numaralanmış bilgilerden hangileri doğrudur?

- A) I ve III.
- B) I ve IV.
- C) II ve III.
- D) II ve IV.

9. "Gökleri yedi kat üzerine yaratan O'dur. Rahman'ın bu yaratmasında bir düzensizlik bulamazsın. Gözünü çevir de bir bak, bir çatlak görebilir misin?"

(Mülk suresi, 3. ayet)

Bu ayetin altı çizili bölümünde Kur'an'daki bilgi kaynaklarından hangisine dikkat çekilmektedir?

- A) Akıl
- B) Vahiy
- C) Duyular
- D) İlham

10. İslam toplumundaki ilk eğitim kurumunu aşağıdakilerden hangisidir?

- A) Suffe
- B) Cami
- C) Küttaplar
- D) Beytül-Hikme

11. Kumar aşağıdaki hak ve özgürlüklerden hangisinin kullanımını doğrudan kısıtlar?

- A) Eğitim hakkı
- B) Ekonomik haklar
- C) Yaşama ve sağlık hakkı
- D) Özel yaşamın gizliliği hakkı

12. Hz. Peygamber genellikle çevresindeki insanların fikirlerine önem vermiş ve onlarla görüş alış-verişinde bulunmuştur. Örneğin, Hendek Savaşı planını yaparken arkadaşlarının fikrini almış ve Selman-ı Farisi isimli sahabenin düşüncesini uygulamıştır.

Bu durum, Hz. Peygamber'in aşağıdaki hak ve özgürlüklerden hangisine önem verdiğinin bir göstergesidir?

- A) Eğitim hakkı
- B) Yaşama hakkı
- C) Din ve vicdan özgürlüğü
- D) Düşünce ve ifade özgürlüğü

13. Kur'an-ı Kerim, başkalarının özel hayatının ve kusurlarının araştırılmasını aşağıdaki kavramlardan hangisi ile ifade etmiştir?

- A) Gıybet
- B) Tecessüs
- C) İftira
- D) Suizan

14. Aşağıdakilerden hangisi Atatürk'ün İslam dini hakkındaki görüşleri arasında yer almaz?

- A) Vicdan işidir.
- B) Akla yatkındır.
- C) Taassubun kaynağıdır.
- D) Vazgeçilmez bir kurumdur.

3. OTURUM

(116) DİN KÜL. AHL. BİL. – 6

15. O, Allah'ın birinci ve en büyük kuldur. Onun izinde bugün milyonlarca insan yürüyor. Benim, senin adın silinir fakat onun adı sonsuza kadar yaşayacaktır.

Atatürk bu sözleri aşağıdakilerden hangisi için söylemiştir?

- A) Hz. Muhammed (sav.)
B) Fatih Sultan Mehmet
C) Hz. Ömer
D) Hz. İsa

16. Aşağıdakilerden hangisi kişinin kendi hak ve özgürlüklerini kısıtlayan alışkanlıklardan biri değildir?

- A) Alkol
B) Kumar
C) Uyuşturucu
D) Kahve

17. Din-bilim ilişkisi konusunda aşağıdakilerden hangisi söylenemez?

- A) Din, bilimi teşvik eder.
B) Birbirine zıt ve çatışan alanlardır.
C) Her ikisi de insanın anlam arayışına cevap oluşturur.
D) Her ikisi de insanı özgürleştirir ve mutluluğa götürür.

18. Hz. Muhammed'e (sav.) vahiyler çoğunlukla hangi yolla gelmiştir?

- A) Cebrail vasıtasıyla
B) Rüya halinde
C) Perde arkasından
D) Doğrudan kalbe ilham

19. Aşağıdakilerden hangisi ekonomik haklar kapsamında değerlendirilemez?

- A) Mülkiyet
B) Sendika kurma
C) Özel yaşamın gizliliği
D) Çalışma ve kazanma

20. Aşağıdakilerden hangisi hak ve özgürlüklerin kullanımında dikkat edilmesi gereken hususlardan biri değildir?

- A) Kişinin kendisine ve başkasına zarar vermemesi
B) Hak ve özgürlüklerde kimseye ayrıcalık tanınmaması
C) Hak ve özgürlük arayışının hukuki ve yasal yollardan yapılması
D) Bireylerin, hak ve özgürlüklerini kullanırken sınır tanımaması

1. "Kaynaşmanız için size kendi cinsinizden eşler yaratıp aranızda sevgi ve merhamet oluşturması da onun varlığının delillerindendir ..."
(Rûm suresi, 21. ayet)

Bu ayette aşağıdakilerden hangisine değginilmemiştir?

- A) Sevgi
B) Şefkat
C) Sabır
D) Uyum

2. "Hiçbir baba çocuğuna güzel terbiyeden daha üstün bir bağışta bulunmamıştır."

Bu hadiste aşağıdakilerden hangisi vurgulanmaktadır?

- A) Babaların çocuklarına iyi davranması gerektiği
B) Güzel ahlakın insan ilişkilerindeki rolü
C) Anne-baba çocuk iletişiminin önemi
D) Çocuk eğitiminin önemi

3. Allah katında en sevimsiz helal, boşanmadır.

Bu hadis ile aşağıdakilerden hangisi vurgulanmıştır?

- A) Ailenin korunması
B) Boşanmanın zorlaştırılması
C) Evlilik ile başlayan sıkıntılar
D) Eşler arası iletişimin önemi

4. Aşağıdakilerden hangisi çocukların aile içindeki sorumlulukları arasında yer almaz?

- A) Ev işlerinde yardımcı olmak
B) Anne-babasına iyi davranmak
C) Ailesinin geçimini sağlamak
D) Kardeşleriyle iyi geçinmek

5. • Evlenen çiftler Tanrı tarafından tek bir varlık olarak kabul edilirler.
• Tanrı'nın insanı bir erkek ve kadından yarattığına inanırlar.
• İffet korumanın ve nesli sürdürmenin yolu olarak görülür.
• Boşanma zina sayılır ve yasaktır.

Evlilikle ilgili bu görüşler aşağıdaki dinlerden hangisine aittir?

- A) İslam
B) Hristiyanlık
C) Yahudilik
D) Hinduizm

6. Bir ailede huzur ve mutluluğun sağlanabilmesi için aşağıdakilerin hangisinden kaçınılmalıdır?

- A) Büyüklere saygılı olmak
B) Çocuklar arasında adaleti gözetmek
C) Sorumluluklarını başkasına yüklemek
D) Eşler arasında sevgi ve saygıyı korumak

7. İslam kültüründe "sıla-i rahim" kavramı ile aşağıdakilerden hangisi anlatılmak istenmektedir?

- A) Akrabaların ziyaret edilmesi
B) Kimsesizlere yardım edilmesi
C) Ana babaya hürmet edilmesi
D) Misafire ikram edilmesi

8. • İslam medeniyetindeki süsleme sanatlarındandır.

- Nigari ve Levni gibi sanatçılar önemli temsilcileridir.
• Kâğıt veya deri üzerine yapılan, ışık, gölge ve derinliği olmayan küçük boyutlu resimlere denir.

Hakkında bilgi verilen sanat aşağıdakilerden hangisidir?

- A) Hat
B) Tezhip
C) Ebru
D) Minyatür

9. Cami ve mescitlerde din hizmetlerinin yürütülmesinde imamla birlikte sürekli görev yapan din görevlisi aşağıdakilerden hangisidir?

- A) Vaiz
B) Müezzin
C) Müftü
D) Diyanet uzmanı

10. Camilerde genellikle cuma ve bayram namazı öncesi ve haftanın belli günlerinde halkı aydınlatıcı konuşmalar yapan din görevlisine --- denir.

Tanımda boş bırakılan yere aşağıdakilerden hangisi gelmelidir?

- A) kayyım
B) müftü
C) imam
D) vaiz

11. Bulunduğu il ve ilçelerde din hizmetlerinden birinci derecede sorumlu Diyanet İşleri Başkanlığı personeli aşağıdakilerden hangisidir?

- A) Eğitim Merkezi Müdürü
B) Müftü
C) Din Hizmetleri Uzmanı
D) Vaiz

3. OTURUM

12. **Diyanet İşleri Başkanlığı hangi tarihte kurulmuştur?**

- A) 19 Mayıs 1919
- B) 20 Nisan 1925
- C) 3 Mart 1924
- D) 29 Ekim 1923

13. **Diyanet İşleri Başkanlığının en yüksek karar ve danışma organı aşağıdakilerden hangisidir?**

- A) Hac ve Umre Hizmetleri Genel Müdürlüğü
- B) Din Hizmetleri Genel Müdürlüğü
- C) Mushafı İnceleme ve Kıraat Kurulu
- D) Din İşleri Yüksek Kurulu

14. **"Hak Dini Kur'an Dili" adlı eserin yazarı aşağıdakilerden hangisidir?**

- A) Ahmet Hamdi Akseki
- B) Elmalılı Hamdi Yazır
- C) Erzurumlu İbrahim Hakkı
- D) Gönönlü Mehmet Efendi

15. **Aşağıdakilerden hangisi din âlimlerinin öncelikli görevlerinden biri değildir?**

- A) Her alanda bilimsel araştırmalar yapmak
- B) Kur'an-ı Kerim'i doğru anlayıp yorumlamak
- C) Kur'an-ı Kerim'in yanında hadisleri de bilmek
- D) İslam tarihi ve kültürü hakkında bilgi sahibi olmak

16. **"Gökleri yedi kat yaratan odur. Rahman'ın bu yaratmasında bir düzensizlik bulamazsın..." (Mülk suresi, 3 - 4. ayetler).**

Bu ayetlerde aşağıdakilerin hangisine değinilmiştir?

- A) Evrende başka canlıların da bulunduğuna
- B) Evrenin ve canlıların sudan yaratıldığına
- C) Evrende bir düzen ve ahenk olduğuna
- D) Evrenin devamlı olarak genişlediğine

17. **Söz ola kese savaşı
Söz ola kestire başı
Söz ola ağulu aşı
Yağ ile bal ede bir söz...**

Bu şiirden aşağıdaki yargıların hangisine ulaşılabilir?

- A) Söz yerinde ve güzel söylenmelidir.
- B) Konuşurken yalandan kaçınılmalıdır.
- C) Sözler bir kaynağa dayandırılmalıdır.
- D) Sözler edebi veya şiirsel olmalıdır.

18. • Arap harflerinin estetik bir şekilde yazılması sonucu ortaya çıkmıştır.
• Ayetlerin, hadislerin veya dini yazıların güzel ve estetik bir tarzda yazılmasıyla ilgilidir.

Özellikleri verilen sanat türü aşağıdakilerden hangisidir?

- A) Minyatür
- B) Hat
- C) Tezhip
- D) Ebru

19. • Altın tozu ve boya kullanılarak yapılır.
• Genellikle sayfa kenarları, kitap başlıklarında kullanılır.
• En güzel örnekleri el yazması Kur'an-ı Kerim'lerde görülür.

Hakkında bilgi verilen sanat aşağıdakilerden hangisidir?

- A) Ebru
- B) Minyatür
- C) Hat
- D) Tezhip

20. **Aşağıdakilerden hangisi Diyanet İşleri Başkanlığı'na bağlı din görevlileri arasında yer almaz?**

- A) İmam-hatip
- B) Cenaze yıkayıcısı
- C) Müezzin-kayyım
- D) Müftü

(122) FELSEFE – 2

1. **Etik ile ilgili aşağıdakilerden hangisi söylenemez?**

- A) Değerlerden oluşan kurallar bütünüdür.
- B) Ahlakın özünü ve temellerini araştırır.
- C) İnsan eylemlerinin dayandığı ilkelere konu alır.
- D) İnsan için neyin iyi neyin kötü olduğunu anlamaya çalışır.

2. I. Hak
II. Erdem
III. Vicdan

Yukarıdakilerden hangileri ahlak felsefesinin temel kavramlarındandır?

- A) I ve II.
- B) I ve III.
- C) II ve III.
- D) I, II ve III.

3. **Determinizme göre, insan davranışlarını iç ve dış faktörlerin etkisi altında gerçekleştirir. Bu yüzden kararlarında ve eylemlerinde özgür değildir.**

Buna göre aşağıdakilerden hangisi determinizme uygun bir ifadedir?

- A) Her şey önceden belirlenmiştir.
- B) İnsan aklını kullanarak özgürleşebilir.
- C) Özgürlük bize doğanın bir armağanıdır.
- D) İnsan tercihlerini belirleme gücüne sahiptir.

4. **Utilitarizme göre insan eylemlerinin ahlaki değeri aşağıdakilerden hangisi ile ölçülür?**

- A) Kişiyi verdiği hazla
- B) Kişiyi sağladığı faydayla
- C) Kişiyi sunduğu özgürlükle
- D) Kişiyi kazandırdığı bilgiyle

5. I. İnsan doğası gereği bencildir.
II. Evrensel bir ahlak yasası yoktur.
III. Ahlaki eylem ödevine uygun olan eylemdir.

Yukarıdaki ifadelerden hangileri Kant'ın ahlak görüşüne uygundur?

- A) Yalnız II
- B) Yalnız III
- C) I ve III.
- D) II ve III.

6. **Farabi'ye göre, ahlak yasasının temelinde akla dayanan rasyonel bilgi vardır. En yüksek iyi mutluluktur. İnsana en büyük mutluluğu veren bilgi de Tanrı'nın bilgisidir.**

Buna göre Farabi'nin aşağıdaki görüşlerden hangisini savunduğu söylenebilir?

- A) Ahlaki eylem haz sağlayan eylemdir.
- B) Bir eylem iyi ideasına uygunsa iyidir.
- C) Fayda sağlayan eylemler insanın özüne uygundur.
- D) İyiye gerçekleştirecek eylemler Tanrısal bilgiyle olanaklıdır.

7. **Aşağıdakilerden hangisi siyaset felsefesinin sorularından biri değildir?**

- A) Erdem nedir?
- B) Bürokrasiden vazgeçilebilir mi?
- C) İktidar kaynağını nereden alır?
- D) En iyi yönetim şekli hangisidir?

3. OTURUM

8. Egemenlik kavramının tanımı aşağıdakilerden hangisidir?

- A) Eylemin hakka hukuka uygun olmasıdır.
- B) Bireyin başka bireylerden isteyebileceği her şeydir.
- C) Devletin iktidar gücünü baskı olmadan kullanabilmesidir.
- D) Bireyler arası ilişkileri düzenlemek için konulmuş kurallardır.

9. Aşağıdakilerden hangisi "Devlet insanlar tarafından oluşturulmuş yapay bir varlıktır." görüşünü savunan filozoflar arasında yer alır?

- A) Sokrates
- B) Gorgias
- C) Aristoteles
- D) J. J. Rousseau

10. Aşağıdakilerden hangisi ideal düzeni reddeden düşünürlerdendir?

- A) Campanella
- B) Thrasymakhos
- C) Farabi
- D) Platon

11. Hobbes'a göre, insan insanın kurdudur. Devlet olmadan insanlar birbirlerine zarar verirler.

Buna göre insanların devlet kurmaktaki temel amacı aşağıdakilerden hangisidir?

- A) Varlıklarını sürdürmek
- B) Geleneklere uygun davranmak
- C) Toplumda karmaşaya yol açmak
- D) Tanrı'nın emirlerini yerine getirmek

12. Aşağıdaki eserlerden hangisi korku ütopyası niteliğindedir?

- A) Erdemli Toplum
- B) Yeni Dünya
- C) Devlet
- D) Ütopya

13. Aşağıdakilerden hangisi birey, devlet ve yaşamı konu edinen "Kutadgu Bilig" adlı eserin yazarıdır?

- A) İbn-i Sina
- B) Yunus Emre
- C) Yusuf Has Hacib
- D) Hacı Bektaş Veli

14. Schiller'e göre, sanat bir oyundur. Her ikisi de insanı kaygılardan sıkıntılardan uzaklaştırır. Ayrıca ikisi de fayda amacı gütmeyen ve insana zevk verir.

Bu parçadan çıkarılacak sonuç aşağıdakilerden hangisidir?

- A) Sanat taklidin taklididir.
- B) Sanat bir yaratma işidir.
- C) Sanat gereksiz bir alandır.
- D) Sanatla oyun benzer uğraşlardır.

15. Aşağıdakilerden hangisi estetiğin temel soruları arasında yer almaz?

- A) Sanat nedir?
- B) Meşruiyetin ölçütü nedir?
- C) Ortak estetik yargılar var mıdır?
- D) Sanat eserinin özellikleri nelerdir?

16. "Güzel, matematiksel olarak orantılı ve ölçülü olandır."

Bu görüşü savunan düşünür aşağıdakilerden hangisidir?

- A) Kant
- B) Croce
- C) Aristoteles
- D) Baumgarten

17. Aşağıdakilerden hangisi bir sanat eserinin temel işlevlerindedir?

- A) Toplum ahlaki açıdan eğitmesi
- B) Kişinin yaşamını kolaylaştırması
- C) Toplum dayanışmasını artırması
- D) Kişide estetik bir duygu oluşturmaya

18. • Tanrıya, buyruklarına ve kutsal kitaptaki dogmalara olan inançtır.
• Saygı ve sevgi duyulan en kutsal ve üstün varlığın niteliğidir.

Bu tanımlar sırasıyla din felsefesinin hangi kavramlarına aittir?

- A) İman - yüce
- B) Vahiy - yüce
- C) İman - Tanrı
- D) İbadet - Tanrı

19. I. Tutarlılık
II. Tarafsızlık
III. Rasyonellik

Yukarıdakilerden hangileri din felsefesinin özelliklerindedir?

- A) Yalnız I
- B) Yalnız II
- C) I ve III.
- D) I, II ve III.

20. Tanrı her şeydir ve her şey Tanrı'dır. Bu düşüncede Tanrı evrene içkindir.

Sözü edilen Tanrı anlayışı aşağıdakilerden hangisidir?

- A) Deizm
- B) Ateizm
- C) Panteizm
- D) Politeizm

(124) SEÇMELİ FELSEFE – 2

1. • İyi nedir?

- İnsan eylemlerinin bir amacı var mıdır?
- İnsan yaratılışı bakımından bencil mi yoksa özgeci midir?

Yukarıdaki sorular felsefenin hangi alanına aittir?

- A) Din felsefesi
- B) Bilim felsefesi
- C) Ahlak felsefesi
- D) Siyaset felsefesi

2. Birey yapmakla yükümlü olduğu ödevlerini yerine getirdiğinde huzurlu olur. Bu görevleri yerine getirmediğinde ise rahatsızlık duyar.

Bu durum aşağıdaki kavramlardan hangisi ile ifade edilir?

- A) İyi
- B) İrade
- C) Eylem
- D) Vicdan

3. • "Mesnevi" adlı eseriyle Türk kültürüne önemli katkılarda bulunmuştur.

- Vahdet-i Vücut anlayışını benimsemiştir.

Verilen bilgiler aşağıdaki düşünürlerden hangisine aittir?

- A) Yunus Emre
- B) Mevlana
- C) Hacı Bektaş Veli
- D) İbn-i Sina

4. Aşağıdakilerden hangisi Spinoza'nın ahlak görüşüne uygun bir ifadedir?

- A) Ahlak sisteminin temelinde Tanrı vardır.
- B) Ahlaki eylemin amacı toplumsal faydadır.
- C) Toplumsal ve evrensel ahlak birbirinden ayrıdır.
- D) İnsan doğasına uygun olan sürü ahlakıdır.

5. İnsanın sezgi ve aşk yoluyla Tanrı'ya ulaşabileceğini savunan görüş aşağıdakilerden hangisidir?

- A) Hazcılık
- B) Akılcılık
- C) Tasavvuf
- D) Faydacılık

6. Aşağıdakilerden hangileri evrensel ahlak yasasının varlığını reddeden düşünürler arasında yer alır?

- A) Sokrates
- B) Epiküros
- C) Spinoza
- D) Kant

3. OTURUM

7. Ahlaksal egoizme göre, yaşamda ilk önce gelen ve her şeyden değerli olan bireyin kendi mutluluğu ve başarısıdır. Bütün insanlar kendi çıkarlarını gerçekleştirecek biçimde davranmak zorundadır.

Bu parçadan aşağıdakilerin hangisine ulaşılabilir?

- A) Evrensel bir ahlak yasası vardır.
B) Başarıya ulaşmak için iyilik yapmak gerekir.
C) İnsan kendisine ve topluma faydalı olmalıdır.
D) Ahlakta egemen olan şey insanın kendi çıkarıdır.

8. I. Özne kurallar koyar.
II. Olanı olduğu gibi ele alır.
III. Siyasal düzenleri bilimsel yöntemle inceler.

Yukarıdakilerden hangileri siyaset biliminin özelliklerinden değildir?

- A) Yalnız I
B) I ve II.
C) I ve III.
D) II ve III.

9. Toplum yönetiminde, iktidarın etki alanı dışında bulunan ve kendi dinamiğini oluşturarak varlığını sürdüren toplum alanıdır.

Tanımı verilen siyaset felsefesi kavramı aşağıdakilerden hangisidir?

- A) Yönetim
B) Bürokrasi
C) Meşruyet
D) Sivil toplum

10. İnsanda duygu, cesaret ve akıl olmak üzere üç yetinin olması gibi devlette de bu yetilere karşılık gelen üretici, savaşçı ve yönetici sınıf vardır.

Verilen düşünce aşağıdaki filozoflardan hangisine aittir?

- A) Farabi
B) Platon
C) Hegel
D) Descartes

11. I. Devlet
II. Yönetim
III. Mutluluk

Yukarıdakilerden hangileri siyaset felsefesinin temel kavramlarındandır?

- A) Yalnız I
B) Yalnız III
C) I ve II.
D) II ve III.

12. Aşağıdakilerden hangisi kaynağını yazılı hukuk kurallarından alan ve bu kuralların herkesi bağladığı egemenlik biçimidir?

- A) Otokratik
B) Geleneksel
C) Karizmatik
D) Demokratik

13. Aşağıdaki "ütopya – yazar" eşleştirmelerinden hangisi doğrudur?

- A) 1984 - George Orwell
B) İdeal Devlet - Farabi
C) Ütopya - Campanella
D) Güneş Ülkesi - Thomas More

14. Bir toplumdaki ideal düzen tüm etkinlik alanlarında özgürlüğe önem verilmesi ve temel ilke olarak özgürlüğün kabul edilmesiyle mümkündür.

Bu görüşü savunan yaklaşım aşağıdakilerden hangisidir?

- A) Hedonizm
B) Liberalizm
C) Anarşizm
D) Sosyalizm

15. Estetikle ilgili aşağıdaki kavramlardan hangisi yanlış tanımlanmıştır?

- A) Estetik nesne; güzellik değerinin taşıyıcısıdır.
B) Estetik tavır; fayda sağlayan nesnelere beğenme davranışıdır.
C) Estetik özne; estetik nesne karşısında tepki gösteren varlıktır.
D) Estetik haz; sanat eserlerinin oluşturduğu hoşlanma duygusudur.

16. Aristoteles'e göre, sanat bir taklittir. Bu dünya gerçek dünyadır ve sanatçı bu dünyayı taklit etmektedir.

Buna göre aşağıdakilerden hangisi Aristoteles'in görüşüne uygun bir yargıdır?

- A) İnsan sanatla uğraşırken özgürlüğe kavuşur.
B) Sanat, idealar dünyasını taklit etmektedir.
C) Sanatçılar eserlerinde gerçek dünyayı yansıtmaktadır.
D) Sanat eseri Tanrısal aklın nesnede yansımalarıyla oluşur.

17. Aşağıdakilerden hangisi estetik yargıların özelliklerinden değildir?

- A) Objektiflik
B) Zorunluluk
C) Bireysellik
D) Görelilik

18. Tanrı'nın kendi varlığını ve buyruklarını dolaylı ya da dolaysız olarak peygamberler aracılığıyla insanlara duyurmasıdır.

Yukarıda din felsefesinin hangi temel kavramı tanımlanmıştır?

- A) İman
B) Vahiy
C) İbadet
D) Peygamber

19. Bütün insanlar iyilik yapmaya, kötülükten uzak durmaya eğilimlidir. Bu yasa öğrenilmemiştir ve vicdanlarımızda hazır olarak bulunur.

Bu açıklama Tanrı'nın varlığına ilişkin kanıtlardan hangisine aittir?

- A) Ahlaki
B) Ereklilik
C) Ontolojik
D) Kozmolojik

20. Aşağıdakilerden hangisi Tanrı'nın varlığı ya da yokluğunun bilineme-yeceğini savunur?

- A) Teizm
B) Deizm
C) Panteizm
D) Agnostisizm

(133) TARİH – 3

1. XII. yüzyıl sonlarında Anadolu'daki mevcut siyasi yapı içerisinde yer almayan devlet, aşağıdakilerden hangisidir?

- A) İznik Rum İmparatorluğu
B) Trabzon Rum İmparatorluğu
C) Bizans İmparatorluğu
D) Türkiye Selçuklu Devleti

2. Osmanlı Beyliği'nin kısa zamanda büyümesinde aşağıdakilerden hangisinin kolaylaştırıcı etkisi yoktur?

- A) Ele geçirilen bölgelerdeki halka adil davranılması
B) Bizans'ın zayıf durumda olması
C) Diğer Türk beyliklerine göre nüfusunun daha az olması
D) Gaza ve cihat anlayışına önem verilmesi

3. Osmanlı Devleti aşağıdaki savaşlardan hangisinin sonucunda Balkanlara kesin olarak yerleşmiştir?

- A) Varna
B) Çirmen
C) Sırp Sındığı
D) II. Kosova

4. Kuruluş döneminde Osmanlılar diğer Türk beylikleri ile savaşmaktan kaçınmışlardır. Fetih hareketlerini Bizans ve Balkanlar yönünde yoğunlaştırmışlardır.

Osmanlı Devleti'nin izlediği bu tutum aşağıdakilerden hangisinin bir göstergesidir?

- A) Batı yönünde genişleme politikası izlediklerinin
B) Anadolu'da siyasi birlik istemediklerinin
C) Baharat yolunu ele geçirmeye çalıştıklarının
D) Gaza ve cihat politikasını terk ettiklerinin

3. OTURUM

5. Edirne'yi fethederek burayı devletin başkenti yapan Osmanlı padişahı aşağıdakilerden hangisidir?

- A) I. Murat B) I. Mehmet
C) Osman Bey D) Yıldırım Bayezid

6. I. Koyunhisar
II. Pelekanon
III. Ankara

Osmanlı Devleti yukarıdaki savaşlardan hangilerini Bizans ordusuy-la yapmıştır?

- A) Yalnız I B) I ve II.
C) II ve III. D) I, II ve III.

7. Aşağıdaki yerlerden hangisi Fatih Dönemi'nde Osmanlı topraklarına katılmıştır?

- A) Rodos Adası B) Belgrad
C) İstanbul D) Bursa

8. Osmanlı Devleti'nde denizcilik faaliyetleri aşağıdaki hangi beyliğın alınmasıyla başlamıştır?

- A) Karamanoğulları
B) Karesioğulları
C) Saruhanoğulları
D) Aydınoğulları

9. I. Süleyman Fransızlara kapitülasyonlar verirken, Avrupa'da siyasi açıdan güçlü olmak ve ekonomik çıkarlar elde etmek istemiştir.

Aşağıdakilerden hangisi kapitülasyonların verilmesinin ekonomik amaçları arasında yer almaz?

- A) Osmanlı tüccarların etkinliğini artırmak
B) Akdeniz ticaretini canlandırmak
C) Coğrafi keşiflerin ekonomik olumsuzluklarının etkisini azaltmak
D) Avrupa'da Osmanlıya karşı Hristiyan birliğinin kurulmasını engellemek

10. Osmanlı Devleti'nde mali işlere bakan, hazineden sorumlu Divanhümayun üyesi aşağıdakilerden hangisidir?

- A) Defterdar B) Nişancı
C) Kaptanıderya D) Kazasker

11. Osmanlı Devleti'nin yönetildiği Topkapı Sarayı'nda Enderun Okulu açılmıştır. Enderun, Osmanlı Devlet hayatına çok sayıda veziriazam, vezir ve yüksek dereceli devlet adamı yetiştirmiştir.

Enderun okulunun açılması ile aşağıdakilerden hangisi amaçlanmıştır?

- A) Laik eğitim anlayışının gelişmesi
B) Askeri harcamaların azaltılması
C) Devlet adamlarının iyi eğitim alması
D) Hazineye gelir sağlanması

12. Coğrafi Keşiflerin Osmanlı Devleti'ni olumsuz etkilemesinin nedeni aşağıdakilerden hangisidir?

- A) Keşfedilen kıtalara göçlerin yaşanması
B) Dünya ile ilgili bilimsel gerçeklere ulaşılması
C) Yeni bitki ve türlerin tanınması
D) Ticaret yollarının yön değiştirmesi

13. Aşağıdaki savaşların hangisiyle devlet hazinesi zenginleşmiş, aynı zamanda halifelik Osmanlı Devleti'ne geçmiştir?

- A) Otlukbeli B) Ridaniye
C) Çaldıran D) Moğaç

14. Kişilerin sahip oldukları menkul ve gayrimenkul malların tamamı veya bir kısmını halkın yararına sunmasıyla ortaya çıkan sistem aşağıdakilerden hangisidir?

- A) Vakıf B) Veraset
C) Yönetim D) İltizam

15. Aşağıdaki sanat dallarından hangisi diğerlerine göre, Osmanlı Devleti'nde gelişme gösterememiştir?

- A) Hat B) Heykelticilik
C) Minyatür D) Çinicilik

16. Osmanlı Devleti'nin XVII. yüzyılda Avusturya'ya karşı üstünlüğünü kaybettiği antlaşma aşağıdakilerden hangisidir?

- A) Zıttorok B) Amasya
C) Yaş D) İstanbul

17. Osmanlı Devleti'nde Duraklama Döneminde ıslahat hareketleri, aşağıdaki hangi alanda yoğunlaşmıştır?

- A) Ticari B) Sosyal
C) Yönetim D) Askeri

18. Fatih Sultan Mehmet zamanında Ayasofya Müderrisliğine atanan, matematik ve astronomiyle ilgili kitapları bulunan bilim adamı aşağıdakilerden hangisidir?

- A) Piri Reis
B) Ali Kuşçu
C) Aşık Paşazade
D) Takiyüddin Mehmet

19. Avrupa'da XVII. yüzyılda aşağıdaki hangi devletin varlığından söz edilemez?

- A) Bizans B) İngiltere
C) Fransa D) Avusturya

20. El yazması kitapları süsleme sanatı aşağıdakilerden hangisidir?

- A) Minyatür B) Çinicilik
C) Tezhip D) Kakkacılık

(134) TARİH – 4

1. Aşağıdaki fikir akımlarından hangisi imparatorlukların parçalanmasında etkili olmuştur?

- A) Hümanizm B) Merkantilizm
C) Milliyetçilik D) Rönesans

2. İngiltere, Amerika'nın bağımsızlığını aşağıdaki hangi antlaşmayla kabul etmiştir?

- A) Versay B) Londra
C) Paris D) Berlin

3. Fransız İhtilaline karşı Avrupa'daki krallıkların ilk defa bir araya gelerek, Avrupa'nın sınırlarını çizdikleri toplantı aşağıdakilerden hangisidir?

- A) 1878 Berlin Kongresi
B) 1876 İstanbul Konferansı
C) 1841 Londra Sözleşmesi
D) 1815 Viyana Kongresi

4. Aşağıdakilerden hangisi Lale Devri yeniliklerinden biri değildir?

- A) Kâğıt fabrikasının açılması
B) Enderun Mektebinin açılması
C) İlk defa çiçek aşısının uygulanması
D) İlk Türk matbaasının açılması

3. OTURUM

5. Osmanlı Devletinde yenilik hareketlerinin gerçekleştiği Lale Devri aşağıdaki hangi olayla son bulmuştur?
- A) 31 Mart Olayı
B) Sırp İsyanı
C) Patrona Halil İsyanı
D) Kabakçı Mustafa İsyanı
6. Aşağıdakilerden hangisinin sonucunda Avrupa'da köylerden şehirlere göçler yaşanmış, fabrikalarda çalışan işçi sınıfı ile sendikacılık faaliyetleri ortaya çıkmıştır?
- A) Fransız İhtilali'nin
B) Haçlı Seferleri'nin
C) Rönesans Hareketleri'nin
D) Sanayi İnkılabı'nın
7. Avrupa başkentlerine ilk kez daimi elçiliklerin açılması aşağıdaki hangi Osmanlı padişahı döneminde gerçekleşmiştir?
- A) III. Selim
B) I. Ahmet
C) II. Mahmut
D) IV. Murat
8. Osmanlı Devleti'nde XVIII. yüzyılda Mühendishane-i Bahri Hümayun ve Humbaracı Ocağı gibi okulların açılması, hangi alandaki ıslahatlara örnektir?
- A) Mali
B) Askeri
C) Hukuk
D) Siyasi
9. II. Mahmut Dönemi'nde Padişah ile Ayanlar arasında imzalanan Sened-i İttifak'ın önemi aşağıdakilerden hangisidir?
- A) Ülkede çıkan isyanlar son bulmuştur.
B) Dış baskılara engel olmuştur.
C) İlk defa padişahın otoritesi sınırlandırılmıştır.
D) Yenilik hareketlerinin önündeki engel kalkmıştır.
10. Aşağıdakilerden hangisi Fransız İhtilali'nin etkisiyle isyan edip Osmanlı Devleti'nden ayrılmamıştır?
- A) Kırım
B) Bulgaristan
C) Yunanistan
D) Sırbistan
11. Aşağıdakilerden hangisi XIX. yüzyılda Rusya'nın izlediği politikalarından birisi değildir?
- A) Panslavizm politikasını yaymak
B) Balkanlardaki isyanları desteklemek
C) Karadeniz'e inmek
D) Zengin kaynaklara sahip Orta Asya'ya doğru genişlemek
12. Avrupa'da, XIX. yüzyılın sonlarına doğru siyasi birliklerini tamamlayan devletler aşağıdakilerden hangisidir?
- A) Almanya-İtalya
B) İspanya-Portekiz
C) Fransa-Rusya
D) Fransa-İngiltere
13. Aşağıdakilerden hangisiyle Osmanlı Devleti'nde halk ilk kez seçme ve seçilme hakkı elde etmiştir?
- A) Islahat Fermanı
B) Kanuni Esasi
C) Tanzimat Fermanı
D) Kapitülasyonlar
14. Avrupalı Devletler 1828 tarihinde Navarin Limanında Osmanlı Donanması'nı yakmışlardır. Bu durumun nedeni aşağıdakilerden hangisidir?
- A) Sırp ayaklanmalarını desteklemek
B) Boğazları ele geçirmek
C) Ticari ayrıcalıklar elde etmek
D) Yunanistan'ın bağımsızlığını sağlamak
15. Aşağıdakilerden hangisi Osmanlı Devleti'nde yapılan bir yenileşme hareketi değildir?
- A) Islahat Fermanı
B) Panslavizm hareketleri
C) Tanzimat Fermanı
D) Meşrutiyetin ilanı
16. Osmanlı Devleti için çok ağır hükümler taşıyan ve Ermeni meselesinin dünya kamuoyuna taşındığı antlaşma, aşağıdakilerden hangisidir?
- A) Bükreş
B) Uşi
C) Berlin
D) Yaş
17. XIX. yüzyılın ikinci yarısında Osmanlı Devleti'nde milliyetçilik akımından ve yabancı devletlerin kışkırtmalarından etkilenerek Taşnak ve Hınçak cemiyetlerini kurup özellikle Doğu Anadolu'da isyanlar çıkaran azınlık aşağıdakilerden hangisidir?
- A) Arnavutlar
B) Ermeniler
C) Rumlar
D) Sırplar
18. XIX. yüzyılda Osmanlı Devleti'nin içine düştüğü olumsuz durumdan kurtarmak için aydın ve düşünürler arasında fikir akımları ortaya çıkmıştır. Aşağıdakilerden hangisi bu fikir akımlarından biri değildir?
- A) Sömürgecilik
B) Osmanlıcılık
C) Türkçülük
D) İslamcılık
19. Osmanlı Devleti'nde Meşrutiyet yanlısı aydınlar tarafından kurulan ve daha sonra ülke yönetiminde söz sahibi olan siyasi hareket aşağıdakilerden hangisidir?
- A) Felah-ı Vatan
B) Ahrar
C) İttihat-ı İslam
D) İttihat ve Terakki
20. Osmanlı Devleti'nin I. Dünya Savaşı'nda Mısır'ı İngilizlerden geri almak ve İngilizler'in sömürgeleri ile bağlantısını kesmek için Almanya'nın isteği üzerine açtığı cephe aşağıdakilerden hangisidir?
- A) Hicaz
B) Kanal
C) Irak
D) Çanakkale

(142) T.C. İNK. TAR. ATA. – 2

1. Aşağıdakilerden hangisi Atatürk'ün dış politikada izlediği ilkelerden biri değildir?
- A) Bağımsızlığı her şeyin üstünde tutmak
B) Gerçekleşmeyecek emeller peşinde koşmamak
C) Dünyadaki gelişmelere kayıtsız kalmak
D) Milletler arası ilişkilerde barışa önem vermek
2. Aşağıdaki inkılaplardan hangisi tarımı geliştirmek için yapılmıştır?
- A) Sanayi-i Nefise Mektebinin açılması
B) Tekke ve zaviyelerin kapatılması
C) Kabotaj kanununun kabulü
D) Aşar vergisinin kaldırılması
3. Aşağıdakilerden hangisi, Cumhuriyet'in ilanının nedenlerinden biri değildir?
- A) Devlet başkanlığı sorununu çözmek
B) Millî egemenliği gerçekleştirmek
C) Hükümet bunalımını önlemek
D) Halifeliğin yetkilerini kullanmak

3. OTURUM

4. 1929 yılında Amerika'da başlayan ve dünyaya yayılan büyük ekonomik krizden en fazla etkilenen ülkelerden biri Türkiye olmuştur.
Bu durum hangi ilkenin ortaya çıkmasında etkili olmuştur?
- A) Devletçilik B) Halkçılık
C) Milliyetçilik D) Laiklik
5. Sadabat Paketi içerisinde yer alan ülke, aşağıdakilerden hangisidir?
- A) İran B) Irak
C) Suriye D) Afganistan
6. Ülkemizde kadınların mirastan pay alma ve mahkemelerde tanıklık yapma konularında erkeklerle eşit hâle geldiği düzenleme aşağıdakilerden hangisidir?
- A) Medeni Kanun
B) Tevhid-i Tedrisat Kanunu
C) Takrir-i Sükûn Kanunu
D) Soyadı Kanunu
7. Aşağıdaki inkılaplardan hangisi eğitim ve kültür alanı ile ilgili **değildir**?
- A) Millet mekteplerinin açılması
B) Medreselerin kapatılması
C) Yeni Türk Harflerinin kabulü
D) Teşkilat-ı Esasiye Kanunu'nun çıkarılması
8. Yeni Türk Devleti'nde milli dil ve tarih araştırmalarına ağırlık verilerek milli bilincin oluşturulmaya çalışılması Atatürk ilkelerinden hangisi ile ilişkilidir?
- A) Laiklik
B) Milliyetçilik
C) Cumhuriyetçilik
D) Devletçilik
9. Soyadı Kanunu'nun kabulü ile efendi, bey, paşa, hoca, molla, hafız, şeyh vb. toplumda ayrıcalık ifade eden lakap ve unvanların kullanılması yasaklandı.
Bu uygulama ile aşağıdakilerden hangisi amaçlanmıştır?
- A) Ekonomik bağımsızlık
B) Milli egemenlik
C) Toplumsal eşitlik
D) Vatan sevgisinin geliştirilmesi
10. Bireylerin din, vicdan ve ibadet özgürlüklerinin güvence altına alınması aşağıdaki Atatürk ilkelerinden hangisi ile doğrudan ilişkilidir?
- A) Laiklik B) Milliyetçilik
C) Halkçılık D) Devletçilik
11. İkinci Dünya Savaşı'nda Almanya, İtalya ve Japonya - - - Devletler grubunu oluşturmuştur.
Verilen cümlede boş bırakılan yere aşağıdakilerden hangisi gelmelidir?
- A) Mihver B) Müttefik
C) İtilaf D) İttifak
12. Atatürkçü düşüncede eğitilmiş ve teknik bilgilerle donatılmış, kültürlü insanların oluşturduğu güç unsuru aşağıdakilerden hangisidir?
- A) Askeri B) Ekonomik
C) Siyasi D) Sosyo-kültürel
13. İkinci Dünya Savaşı sonrasında SSCB'nin Ortadoğu ve Avrupa'da girmiş olduğu yayılmacı faaliyetlerine engel olmak için Batılı ülkelerin kurduğu askeri teşkilat aşağıdakilerin hangisidir?
- A) Birleşmiş Milletler
B) NATO
C) Varşova Paketi
D) Avrupa Birliği
14. "Büyük Millet Meclisinde ve millet karşısında ulus işlerinin serbestçe tartışılması ve iyi niyet sahibi kişilerin ve partilerin özel görüşlerini ortaya koyarak milletin yüksek menfaatlerini aramaları, benim gençliğimden beri âşık ve taraftar olduğum bir sistemdir."
Atatürk bu sözü ile aşağıdakilerden hangisinin gerekliliğine vurgu yapmıştır?
- A) Görüş ayrılıklarına son verilmesi gerektiğine
B) Ekonomik bağımsızlığın sağlanmasına
C) Farklı görüşlerin mecliste temsil edilebilmesine
D) Seçimlerde oy vermenin gereğine
15. Ülke içinde ekonomik karışıklığı önlemek, özellikle Avrupa ile ticari ilişkilerimizi uyumlu hale getirmek için aşağıdaki inkılaplardan hangisi yapılmıştır?
- A) Kabotaj Kanunu çıkarıldı.
B) Kılık kıyafette değişiklik yapıldı.
C) Tevhid-i Tedrisat Kanunu çıkarıldı.
D) Ölçü, saat ve takvimde değişiklik yapıldı.
16. Aşağıdakilerden hangisi Atatürk Dönemi dış politika olaylarından birisi **değildir**?
- A) Kore Savaşı
B) Montrö Sözleşmesi
C) Sadabat Paketi
D) Musul Sorunu
17. İkinci Dünya Savaşı'na girmesi ile savaşın seyrini değiştiren, Japonya'nın iki kentine attığı atom bombası ile teslim olmasını sağlayan ülke aşağıdakilerin hangisidir?
- A) Rusya
B) ABD
C) İngiltere
D) Fransa
18. Ülkemiz limanları arasında gemi işletme ve deniz taşımacılığı yapma hakkının batılı devletlerden anılıp Türk vatandaşlarına verilmesi aşağıdakilerin hangisi ile gerçekleşmiştir?
- A) Teşvik-i Sanayi Kanunu
B) Kabotaj Kanunu
C) Medeni Kanun
D) Montrö Boğazlar Sözleşmesi
19. Türk kadını 3 Nisan 1930'da belediye seçimlerine katılma, 26 Ekim 1933'de muhtarlık ve ihtiyar heyeti üyeliği seçimlerinde seçme seçilme hakkı, 5 Aralık 1934 tarihinde kabul edilen kanunla da milletvekili seçme seçilme hakkını elde etmiştir.
Bu gelişmelerle elde edilmek istenen amaç aşağıdakilerin hangisidir?
- A) Kadınların ekonomik özgürlüğünü sağlamak
B) Seçme ve seçilmeyi zorunlu hale getirmek
C) Demokrasiyi tam anlamıyla gerçekleştirmek
D) Çok partili hayata geçmek
20. "Türk ulusu, yaşadığı çağın uygarlık düzeyinin gereklerini yerine getirmek zorundadır"
Atatürk'ün bu sözü aşağıdaki Atatürk ilkelerinden hangisi ile doğrudan ilgilidir?
- A) Devletçilik B) Milliyetçilik
C) Halkçılık D) İnkılapçılık

3. OTURUM

(153) COĞRAFYA – 3

1. Aşağıdakilerden hangisi dış püs-kürük kayaçlardandır?

- A) Kalker B) Granit
C) Andezit D) Konglomera

2. Tortul ve püs-kürük kayaçların, yüksek sıcaklık ve basınç altında kalarak başka kayaçlara dönüşmesi sonucu oluşan kayaç türüne ne ad verilir?

- A) Magmatik kayaçlar
B) Metamorfik kayaçlar
C) Sedimanter kayaçlar
D) Fiziksel tortul kayaçlar

3. Kıtaların hareketlerini açıklamak için birçok teori ileri sürülmüştür. Bunlardan biri Kıtaların Kayması Teorisi'dir. Bu teoriye göre; Karalar ayrılmadan önce Pangea adı verilen tek kıtadan oluşuyordu. Bugünkü kıtalar büyük ölçüde Pangea'dan kopan parçaların birbirinden uzaklaşmasıyla oluşmuştur.

Bu teoriyi ortaya atan bilim insanı aşağıdakilerden hangisidir?

- A) Nikola Tesla
B) Albert Einstein
C) Alfred Wegener
D) Stephan Hawking

4. Aşağıdaki ülkelerin hangisinde deprem riski daha yüksektir?

- A) İtalya B) İngiltere
C) Rusya D) Finlandiya

5. Yeryüzündeki sıcak su kaynakları aşağıdakilerden hangisi ile paralellik gösterir?

- A) Sıradağlar
B) Fay hatları
C) Verimli araziler
D) Sıcak iklim bölgeleri

6. Türkiye aşağıdaki levhaların hangisi üzerinde yer alır?

- A) Pasifik Levhası
B) Nazka Levhası
C) Avrasya Levhası
D) Avustralya Levhası

7. Ekvatordan kutuplara doğru gidildikçe deniz suyu sıcaklığı (I) ----, buna bağlı olarak tuzluluk oranı da (II) ----.

Yukarıda boş bırakılan yerlere sırası ile aşağıdakilerden hangisi yazılmalıdır?

- | | | |
|----|--------|--------|
| | I | II |
| A) | azalır | artar |
| B) | artar | azalır |
| C) | artar | artar |
| D) | azalır | azalır |

8. Aşağıdaki göllerden hangisinin oluşumu diğerlerinden farklı bir nedene bağlıdır?

- A) Aral Gölü
B) Hazar Gölü
C) Baykal Gölü
D) Nemrut Gölü

9. I. Ganj
II. İndus
III. Kongo
IV. Amazon

Yukarıdaki akarsulardan hangileri düzensiz rejime sahiptir?

- A) I ve II. B) II ve III.
C) II ve IV. D) I ve IV.

10. İçinde yeraltı suyu bulunduran tabakaya ne ad verilir?

- A) Humus B) Akifer
C) Horizon D) Fay hattı

11. Yağışlarla yeryüzüne inen suların yer altına sızma miktarını aşağıdakilerden hangisi en az etkiler?

- A) Arazinin eğimi
B) Kayacın geçirirliliği
C) Kayacın gözeneklilik derecesi
D) Arazinin yükseltisi

12. **Gülay** : Dağ yamacı boyunca aynı karakterde toprak oluşur.

Zafer : Ana kayanın cinsi ve bileşimi toprağın yapısını etkiler.

Turgut : Eğimli yamaçlarda toprak örtüsü incedir.

Berna : Yağış miktarındaki farklılık değişik toprak türleri oluşmasında etkilidir.

Toprak oluşumuna etki eden faktörleri açıklayan öğrencilerden hangisinin ifadesi yanlıştır?

- A) Gülay B) Turgut
C) Zafer D) Berna

13. Eski göl tabanlarında killi ve kireçli depolar üzerinde oluşan topraklara ne ad verilir?

- A) Morenler B) Vertisoller
C) Regosoller D) Rendzinalar

14. Aşağıdakilerden hangisi nüfus sayımının amaçlarından biri değildir?

- A) Nüfus artış hızını tespit etmek
B) Kır ve kent nüfusunu belirlemek
C) Nüfusun eğitim durumunu belirlemek
D) Halkın yöresel alışkanlıklarını belirlemek

15. Aşağıdakilerden hangisi çalı formasyonuna ait bitki topluluğudur?

- A) Maki B) Çayır
C) Savan D) Tundra

16. Aşağıdakilerden hangisi ülkelerin gelişmişlik seviyesi hakkında bilgi vermez?

- A) Okur-yazar oranı
B) Ortalama ömür süresi
C) Aritmetik nüfus yoğunluğu
D) Çalışanların sektörel dağılımı

17. Aşağıdakilerden hangisi nüfus artışının olumlu sonuçlarındandır?

- A) İş gücünün artması
B) Dışa göçün artması
C) Konut ihtiyacının artması
D) Doğal kaynak kullanımının artması

18. Aşağıdakilerden hangisi göçün doğal nedenlerinden biridir?

- A) Eğitim B) İş imkanları
C) Güvenlik D) Deprem

19. Hammaddenin işlenerek kullanıma sunulduğu sanayi ile ilgili çalışmalar hangi ekonomik faaliyet grubuna girer?

- A) Birincil B) İkincil
C) Üçüncül D) Dördüncül

20. Bitki örtüsünden yoksun yarı kurak bölgelerde, şiddetli erozyon ve sel sularının etkisi ile oluşan yer şekli aşağıdakilerden hangisidir?

- A) Falez B) Dev kazanı
C) Kırgıbayır D) Birikinti konisi

(154) COĞRAFYA – 4

1. Bir araştırmacı arazide aşağıdakilerden hangisini görürse orada ormanların tahrip edildiğini anlar?

- A) Meşe
B) Çayır
C) Akçaağaç
D) Antropojen bozkır

2. Aşağıdakilerden hangisi farklı toprak tipleri oluşmasının nedenlerinden biri değildir?

- A) Farklı iklimlerin görülmesi
B) Yer şekillerinin farklı olması
C) Tarım ürünlerinin çeşitli olması
D) Ana kayaların farklı yapıda olması

3. • Organik madde bakımından fazla zengin değildir.
• Üzerinde genellikle turuncgil, bağcılık ve zeytin tarımı yapılır.
• Marmara Bölgesi'nin güneyi, Ege ve Akdeniz Bölgeleri'nde yaygındır.

Yukarıda bazı özellikleri verilen zonal toprak türü aşağıdakilerden hangisidir?

- A) Terra-rossa
B) Kolüvyal toprak
C) Kahverengi orman toprağı
D) Kestane renkli bozkır toprağı

4. Aşağıdakilerden hangisi Türkiye'de akarsuların taşımacılığa elverişli olmamasının sebeplerinden biridir?

- A) Yatak eğimlerinin fazla olması
B) Farklı kaynaklardan beslenmesi
C) Etrafında yerleşim alanı bulunması
D) İçme ve kullanma suyu olarak kullanılması

5. • Tipik bir Akdeniz ağacıdır.
• 15-20 metre boyundadır.
• Tohumları Batı Anadolu köylüleri için önemli gelir kaynağıdır.
• Gençlik döneminde yuvarlak, yaşlılık döneminde şemsiye gibi tepesi ile diğer çam türlerinden kolayca ayırt edilir.

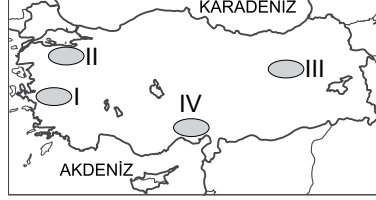
Buna göre sözü edilen çam türü aşağıdakilerden hangisidir?

- A) Sarıçam
B) Fıstık Çamı
C) Kızılcım
D) Karaçam

6. Aşağıdakilerden hangisi Karadeniz'e dökülen akarsularımızdan biridir?

- A) Aksu
B) Aras
C) Gediz
D) Filyos

7.



Haritada numaralandırılan alanlardan hangisi göller bakımından zengindir?

- A) I. B) II. C) III. D) IV.

8. Aşağıda Karadeniz ile ilgili verilen bilgilerden hangisi yanlıştır?

- A) Deniz turizmi yeterince gelişmiştir.
B) Tuzluluğu en düşük denizimizdir.
C) Tamamı Türkiye sınırları içinde kalır.
D) Yılda yaklaşık 2000 saat güneşlenme süresi vardır.

9. Batı ve Güneydoğu Toroslar ile Doğu Anadolu'da yaygın olan, daha çok göçebe çobanların çadırlarından oluşan köy altı yerleşmesi aşağıdakilerden hangisidir?

- A) Oba
B) Kom
C) Ağıl
D) Çiftlik

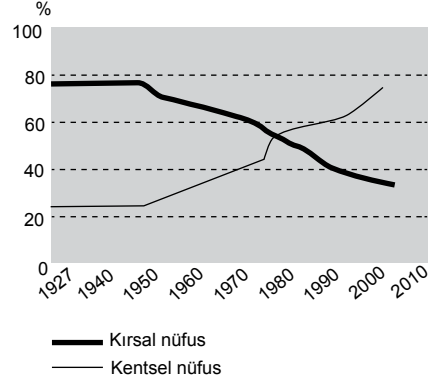
10. Aşağıdakilerden hangisi kır ve kent yerleşmelerini birbirinden ayırmak için kullanılan ölçütlerden biri değildir?

- A) İdari yapı
B) Nüfus sayısı
C) Geçim kaynakları
D) Nüfusun cinsiyet yapısı

11. Aşağıdakilerden hangisi mevsimlik göçe örnektir?

- A) Tayin nedeni ile öğretmenin İzmir'den Iğdır'a taşınması
B) Üniversite öğrenimi görmek için öğrencinin Elazığ'dan Ankara'ya gelmesi
C) Pamuk hasadında işçilerin çalışmak için Güneydoğu Anadolu'dan Çukurova'ya gelmesi
D) Büyük kentin karmaşasından kaçmak isteyen ailenin İstanbul'dan ayrılıp Fethiye'ye yerleşmesi

12.



Yukarıdaki grafiğe bakılarak aşağıdakilerden hangisi söylenebilir?

- A) 1927-1950 yılları arasında kırsal nüfus azalmıştır.
B) 1950'den sonra kentsel nüfus sürekli artış göstermiştir.
C) 1950-1970 yılları arasında kentlerde erkek nüfus kadın nüfusu geçmiştir.
D) 2000-2010 yılları arasında kırsal alanlarda tarımda çalışanların oranı düşmüştür.

13. Dünya'nın çevresini ilk kez dolaşan denizci aşağıdakilerden hangisidir?

- A) Colomb
B) Vasco de Gama
C) Macellan
D) Barthelemy Diaz

14. Afrika Kitası'nı dolaşarak Ümit Burnu'nu geçip, Hint Okyanusuna ulaşan yolu kısaltarak, Akdeniz'in tekrar önemli bir ticaret denizi hâline gelmesine katkı sağlayan ve 1869'da açılan su yolu aşağıdakilerden hangisidir?

- A) Kiel
B) Süveyş
C) Korint
D) Panama

15. Ulaşım sistemleri arasında yük taşımacılığı açısından en ucuz olanı aşağıdakilerden hangisidir?

- A) Karayolu
B) Havayolu
C) Demiryolu
D) Denizyolu

16. Karayolu ulaşımının en gelişmiş olduğu Asya ülkesi aşağıdakilerden hangisidir?

- A) Çin
B) Tayland
C) Japonya
D) Hindistan

3. OTURUM

17. Aşağıdakilerden hangisi meteorolojik kökenli doğal afetlerden biridir?

- A) Sel B) Deprem
C) Heyelan D) Tsunami

18. Aşağıdaki ülkelerden hangisinde kasırga yaşanmaz?

- A) ABD B) Küba
C) Filipinler D) Türkiye

19. Aşağıdakilerden hangisi afet öncesinde alınması gereken önlemlerden biridir?

- A) Geçici iskan alanları oluşturmak
B) Erken uyarı ve ikaz sistemi kurmak
C) İlk yardım ve tedavi sürecine başlamak
D) Arama ve kurtarma çalışmaları yapmak

20. Aynı büyüklükte bir depremin aşağıdaki ülkelerden hangisinde can ve mal kaybına daha az neden olması beklenir?

- A) Kanada B) Şili
C) Cezayir D) Endonezya

(158) COĞRAFYA – 8

1. Geçmiş yıllardaki nüfus verilerinden yararlanıp, gelecek yıllardaki nüfusun ne kadar olacağı hakkında yapılan tahminlere ne denir?

- A) Nüfus piramidi
B) Doğurganlık hızı
C) Nüfus haritası
D) Nüfus projeksiyonu

2. Nüfus miktarı ve özellikleri ile ülkelerin gelişmişlikleri arasında ilişki bulunmaktadır.

Nüfusun hangi özelliği ile ülkenin gelişmişliği arasında bağlantı yoktur?

- A) Okur - yazar oranı
B) Kadın - erkek oranı
C) Kişi başına düşen gelir miktarı
D) Çalışan nüfusun sektörel dağılımı

3. Ülkemizde doğal ve beşeri şartların farklılığı bölgeler arasında gelişmişlik ve refah farklarının oluşmasına neden olmuştur. Bu durum özellikle sanayisi gelişmiş kentlere göçü teşvik ederken göç veren yerlerde ise ekonomik ve sosyal hayatın gerilemesine ve kaynakların israf olmasına sebep olmaktadır.

Metinde ülkemizde yapılan hangi çalışmaların sebebi üzerinde durulmuştur?

- A) Nüfus planlamalarının
B) Bölgesel kalkınma projelerinin
C) Yenilenebilir enerji yatırım projelerinin
D) Ağaçlandırma ve milli park planlamalarının

4. Adıyaman, Siirt, Kilis ve Batman hangi kalkınma projesinin uygulandığı illerimizdir?

- A) GAP B) DAP
C) ZBK D) DOKAP

5. Aşağıdakilerden hangisi Osmanlı Devleti'nin jeopolitik önemini olumsuz yönde etkilemiştir?

- A) Döneminin en güçlü ordusuna sahip olunması
B) Akdeniz'in büyük kısmının denetim altına alınması
C) Yavuz Sultan Selim'le halifeliğin Osmanlılara geçmesi
D) Transit ticaretin karayolundan, denizyoluyla Avrupalılara geçmesi

6. Kuzey Atlantik bölgesinde barış ve güvenliği korumak, dışardan gelecek saldırılara karşı güç birliği oluşturmak amacıyla kurulan örgüt aşağıdakilerden hangisidir?

- A) BM B) AB
C) NATO D) KEİ

7. Ekonomik, kültürel ve sosyal veriler bir ülkenin gelişmişlik düzeyi hakkında bilgi vermektedir.

Buna göre aşağıdakilerden hangisi kültürel verilerdendir?

- A) Kişi başı düşen enerji tüketimi
B) Kitap, dergi, gazete okuma oranları
C) Doktor başına düşen hasta sayısı
D) Çalışan nüfusun sektörel dağılımı

8. Etiyopya, Nijer, Mozambik ve Senegal gibi İnsani Gelişim Endeksi'nde son sıralarda olan ülkelerin hangi özelliği bu durumun sebep olan temel unsurdur?

- A) Geri kalmış ülkeler olmaları
B) Yer altı kaynaklarının fakir olmaları
C) Coğrafi konumlarının elverişsiz olması
D) Ortalama yaşam sürelerinin kısa olması

9. Aşağıdakilerden hangisi gelişmiş ülkelerdendir?

- A) Kanada B) Nijerya
C) Moğolistan D) Afganistan

10. Endonezya;

- I. Güneydoğu Asya'da yer alan bir ülkedir.
II. On binden fazla adadan oluşan ülkede ekvatorial iklim hâkimdir.
III. Nüfusu 255 milyon, yüzölçümü iki milyon km²'dir.
IV. Volkanik dağlar bulunur ve birinci derece deprem alanıdır.

Yukarıda verilenlere göre Endonezya'nın kaç numaralı özelliği Türkiye'ye benzemektedir?

- A) I B) II C) III D) IV

11. Elmas, altın, platin, krom ve kömür madenleri bakımından zengin olan bu yüzden de Avrupalıların ilgisini çeken Afrika ülkesi aşağıdakilerden hangisidir?

- A) Fas
B) Mısır
C) Etiyopya
D) Güney Afrika Cumhuriyeti

12. Mavi Akım, hangi iki ülke arasında petrol sevkiyatı yapan boru hattı projesinin adıdır?

- A) Türkiye - Rusya
B) Türkiye - İran
C) Almanya - Rusya
D) ABD - Suudi Arabistan

13. Almanya, ABD, İngiltere, Japonya ve Çin gibi çok fazla enerji tüketen ülkelerin ortak özelliği aşağıdakilerden hangisidir?

- A) Birbirlerine sınır olmaları
B) Nüfus artışlarının düşük olması
C) Sanayilerinin gelişmiş olması
D) Madenler bakımından zengin olmaları

3. OTURUM

(163) MATEMATİK – 3

14. Orta Doğu'da sıcak çatışmaların yaşanmasının en önemli sebebi aşağıdakilerden hangisidir?
- A) Su sıkıntısı
B) Petrolün paylaşımı
C) Kültürel sebepler
D) Etnik farklılıklar
15. Doğal kaynaklardan sürdürülebilir şekilde yararlanabilmek için aşağıdakilerden hangisine daha fazla öncelik verilmelidir?
- A) Kaynakları bilinçli tüketmeye
B) Yeni yerleşim alanlarını açmaya
C) Tüketimi tüm bölgelere yaymaya
D) Rezervi yüksek kaynakları tüketmeye
16. Aşağıdakilerden hangisi su kaynaklarına zarar vermez?
- A) Kirlilik
B) Küresel ısınma
C) Sürdürülebilir avlanma
D) Yoğun su kullanımı
17. Küresel ısınma, aşağıdaki hayvanlardan hangisinin neslinin devamlılığını daha çok tehdit eder?
- A) Panda
B) Kutup ayısı
C) Kaplan
D) Yunus
18. Aşağıdakilerden hangisinin Dünya'da erozyonun ilk kez etkili olmasına neden olan gelişme olduğu söylenebilir?
- A) Sanayileşme
B) Küresel ısınma
C) Tarımın başlaması
D) Madenlerin kullanımı
19. Aşağıdakilerden hangisi çevrenin korunmasına yönelik bir çalışma olamaz?
- A) Çöplerin ayrıştırılarak toplanması
B) Tarım ilacı kullanımının sınırlandırılması
C) Kâğıt yerine plastik poşetlerin kullanılması
D) Yenilenebilir enerji üretiminin desteklenmesi
20. Tükenme tehlikesinde olan, yeryüzünde eşine az rastlanan ve küresel önemi olan doğal değerlere ne ad verilir?
- A) Ekosistem
B) Tabiat parkı
C) Doğal denge
D) Doğal miras

1. $\frac{9! + 10!}{10! + 11!}$ ifadesinin eşiti aşağıdakilerden hangisidir?
- A) $\frac{11}{120}$ B) $\frac{1}{11}$ C) $\frac{1}{12}$ D) $\frac{9}{110}$

2. $A = \{1, 2, 3, 4, 5\}$ kümesinin elemanlarıyla üç basamaklı kaç farklı doğal sayı yazılabilir?
- A) 64 B) 80 C) 100 D) 125

3. $C(n, 2) + C(n, 0) + C(n, n) = 17$ olduğuna göre n kaçtır?
- A) 4 B) 5 C) 6 D) 7

4. $(2x - y)^6$ açılımı x'in azalan kuvvetlerine göre sıralanırsa baştan 3. terim aşağıdakilerden hangisi olur?
- A) $160x^3y^3$ B) $240x^3y^3$
C) $160x^4y^2$ D) $240x^4y^2$

5. Aşağıdaki fonksiyonlardan hangisi çift fonksiyondur?

- A) $k(x) = 5x + 3$
B) $h(x) = 2x^2 + x$
C) $g(x) = 3x^2 - 1$
D) $f(x) = 4x^3 + x$

6. Düzgün iki madeni para ve bir çift hilesiz zar havaya atılıyor.

Madeni paraların yazı veya zarların üst yüzlerindeki sayıların toplamının 7 olma olasılığı kaçtır?

- A) $\frac{3}{8}$ B) $\frac{5}{12}$ C) $\frac{1}{2}$ D) $\frac{2}{3}$

7. $f: \mathbb{R} \rightarrow \mathbb{R}$, $f(x) = 6x - 3$ olduğuna göre $f^{-1}(15)$ kaçtır?

- A) 2 B) 3 C) 5 D) 6

8. $f, g: \mathbb{R} \rightarrow \mathbb{R}$, $f(x) = 5x - 3$ ve

$g(x) = x^2 - 2x + 5$ olduğuna göre $(f \circ g)(2)$ kaçtır?

- A) 22 B) 28 C) 36 D) 40

9. $f, g: \mathbb{R} \rightarrow \mathbb{R}$,

$f(x) = \frac{x+2}{3}$ ve $g(x) = 2x - 1$ olduğuna göre $(4f - 2g)(-5)$ kaçtır?

- A) -26 B) -4 C) 18 D) 24

10. Köşelerinin koordinatları

$A(-2, 1)$, $B(3, 0)$ ve $C(2, -4)$ olan bir ABC üçgeninin ağırlık merkezinin koordinatları aşağıdakilerden hangisidir?

- A) $G(3, -1)$ B) $G(1, -3)$
C) $G(1, 0)$ D) $G(1, -1)$

11. Denklemleri $ax - 2y + 5 = 0$ olan doğrunun eğimi 3 olduğuna göre a kaçtır?

- A) -10 B) -6 C) 6 D) 10

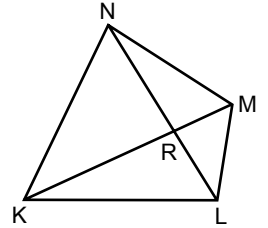
12. Denklemleri $3x - 4y + 1 = 0$ ve $6x + my - 1 = 0$ olan doğruların ortak noktası olmadığına göre m kaçtır?

- A) 8 B) 6 C) -6 D) -8

13. $A(3, -2)$ noktasının $3x - 4y - 2 = 0$ doğrusuna uzaklığı kaç birimdir?

- A) 2 B) 3 C) 4 D) 5

- 14.



Şekildeki KLMN dörtgeninde

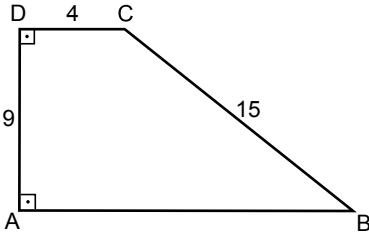
$A(\widehat{NKR}) = 15 \text{ cm}^2$, $A(\widehat{KRL}) = 10 \text{ cm}^2$ ve $A(\widehat{RLM}) = 4 \text{ cm}^2$ dir.

Buna göre $A(\widehat{RMN})$ kaç santimetrekaredir?

- A) 5 B) 6 C) 7 D) 8

3. OTURUM

15.

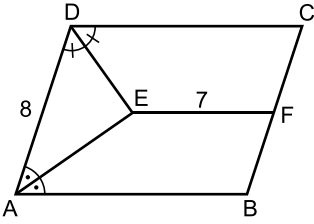


Şekildeki ABCD yamuğunda
 $[DA] \perp [AB]$, $[AD] \perp [DC]$,
 $|AD| = 9$ cm, $|DC| = 4$ cm ve
 $|CB| = 15$ cm'dir.

Buna göre $|AB|$ kaç santimetredir?

- A) 16 B) 15 C) 14 D) 13

16.

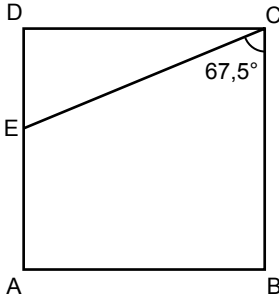


Şekildeki ABCD paralelkenarında
 $m(\widehat{CDE}) = m(\widehat{EDA})$,
 $m(\widehat{DAE}) = m(\widehat{EAB})$,
 $|AD| = 8$ cm, $|EF| = 7$ cm ve
 $|BF| = |FC|$ tir.

Buna göre ABCD paralelkenarının çevresi kaç santimetredir?

- A) 35 B) 36 C) 37 D) 38

17.

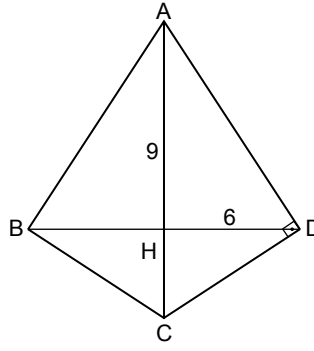


Şekildeki ABCD karesinde
 $m(\widehat{ECB}) = 67,5^\circ$ dir.

Buna göre $\frac{|AE|}{|ED|}$ kaçtır?

- A) 2 B) $\sqrt{2}$
 C) 1 D) $\frac{\sqrt{2}}{2}$

18.



Şekildeki ABCD deltoidinde
 $|AB| = |AD|$, $[AD] \perp [DC]$,
 $|AH| = 9$ cm, $|DH| = 6$ cm'dir.

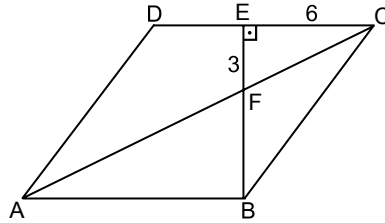
Buna göre ABCD deltoidinin alanı kaç santimetrekaredir?

- A) 54 B) 72 C) 78 D) 91

19. Bir iç açısının ölçüsü bir dış açısının ölçüsünün 5 katı olan düzgün çokgen kaç kenarlıdır?

- A) 6 B) 8 C) 10 D) 12

20.



Şekildeki ABCD eşkenar dörtgeninde
 $[BE] \perp [DC]$, $|FE| = 3$ cm,
 $|EC| = 6$ cm ve A, F, C noktaları doğrusaldır.

Buna göre $|DE|$ kaç santimetredir?

- A) 4 B) 5 C) 6 D) 7

(165) MATEMATİK – 5

1. $f: \mathbb{N}^+ \rightarrow \mathbb{R}$, $f(n) = \frac{4}{2n+a}$ dizisi veriliyor.

Buna göre a aşağıdakilerden hangisi olamaz?

- A) -2 B) -1 C) 0 D) 1

2. İlk terimi 8, beşinci terimi -4 olan aritmetik dizinin üçüncü terimi kaçtır?

- A) 1 B) 2 C) 3 D) 4

3. 1, 1, 2, 3, 5, a, b ...

Yukarıda ilk yedi terimi verilen Fibonacci dizisinde a + b kaçtır?

- A) 34 B) 27 C) 21 D) 16

4. Bir geometrik dizide birinci terim 27 ve ortak çarpan $\frac{1}{3}$ olduğuna göre dizinin beşinci terimi kaçtır?

- A) $\frac{1}{9}$ B) $\frac{1}{3}$ C) 1 D) 3

5. Dört basamaklı 47a8 doğal sayısının 9 ile bölümünden kalan 4 olduğuna göre a kaçtır?

- A) 3 B) 4 C) 5 D) 6

6. Altı basamaklı 3K5 241 sayısı 11 ile bölünebildiğine göre K kaçtır?

- A) 3 B) 5 C) 7 D) 9

7. Dört basamaklı 3a6b doğal sayısı 15 ile bölünebildiğine göre a + b en çok kaçtır?

- A) 12 B) 11 C) 10 D) 9

8. 3 ve 4'e bölünebilen iki basamaklı kaç doğal sayı vardır?

- A) 6 B) 8 C) 10 D) 12

9. 42 ve 60 litrelik iki farklı marka zeytinyağı birbirine karıştırılmadan ve artmayacak şekilde eşit hacimli bidonlara doldurulacaktır.

Bunun için en az kaç bidona ihtiyaç vardır?

- A) 15 B) 16 C) 17 D) 18

3. OTURUM

10. 36, 72 ve 108 sayılarının EKOK'u kaçtır?

- A) 180 B) 216 C) 288 D) 360

11. Bir top kumaşın önce $\frac{1}{5}$ 'i, sonra kalan kumaşın $\frac{1}{3}$ 'ü satılıyor.

Geriye 1200 metre kumaş kaldığına göre bir top kumaş kaç metredir?

- A) 2500 B) 2250 C) 2000 D) 1750

12. Eşit iş gücündeki 4 çalışan 8 günde 20 m² halı dokuyabilmektedir.

Buna göre bu çalışanlardan 2'si 15 m² halıyı kaç günde dokuyabilir?

- A) 8 B) 9 C) 10 D) 12

13. Aysu kullandığı cep telefonu operatörüne hat bedeli olarak ayda 15 lira sabit ücret ve konuştuğu her dakika için 0,2 lira ödemektedir.

Buna göre Aysu 40 lira telefon faturası ödediği ay telefonuyla kaç dakika konuşmuştur?

- A) 125 B) 120 C) 115 D) 110

14. % 20 eksiği 128 olan sayı kaçtır?

- A) 140 B) 150 C) 160 D) 170

15. Bir kilogramının maliyeti 15 lira olan 6 kg fıstıkla, bir kilogramının maliyeti 30 lira olan 4 kg fındık karıştırılıyor.

Buna göre bu karışımın bir kilogramının maliyeti kaç lira olur?

- A) 20 B) 21 C) 22 D) 23

16. Boş bir havuzu doldurmak üzere aynı anda açılan eşit kapasiteli 5 musluk havuzun tamamını 9 saatte dolduruyor.

Buna göre bu musluklardan 3'ü aynı anda açıldığında bu boş havuz kaç saatte dolar?

- A) 10 B) 12 C) 15 D) 18

17. Şeker oranı % 20 olan 80 litre şekerli suya 20 litre saf su ilave edilirse yeni karışımın şeker yüzdesi kaç olur?

- A) 8 B) 10 C) 12 D) 16

18. Yıllık %14 basit faizle bankaya yatırılan paranın 4 yıl sonunda getirdiği faiz 2240 liradır.

Buna göre bankaya yatırılan para kaç liradır?

- A) 4300 B) 4200 C) 4100 D) 4000

19. Aralarında 420 km mesafe bulunan iki araçtan biri A kentinden saatte 60 km, diğeri B kentinden saatte 80 km sabit hızla aynı anda birbirlerine doğru hareket ediyorlar.

Buna göre bu iki araç B kentinden kaç kilometre uzakta karşılaşırlar?

- A) 240 B) 250 C) 260 D) 270

20. Üç hemşire sırasıyla 6, 8 ve 10 gün aralıklarla nöbet tutmaktadırlar.

Bu üç hemşire birlikte nöbet tuttuktan en az kaç gün sonra tekrar birlikte nöbet tutarlar?

- A) 60 B) 80 C) 100 D) 120

(206) PSİKOLOJİ – 1

1. "Bütün, oluşturduğu parçalar ve ilişkilerin toplamı ile açıklanamayan ve bunun üstünde olan bir yapıdır." görüşünü savunan yaklaşım aşağıdakilerden hangisidir?

- A) İşlevselci B) Davranışçı
C) Hümanistik D) Gestaltçı

2. Çağdaş Psikolojide uzmanlık alanları "Deneysel Alanlar" ve "Uygulamalı Alanlar" olarak sınıflandırılır. Deneysel alanlar, daha çok akademik araştırmaları içerir. Uygulamalı alanlar ise akademik çalışmalardan edinilen bilgilerin pratik hayata uygulanmasından oluşur.

Buna göre aşağıdaki psikolojinin alt dallarından hangisi deneysel bir alandır?

- A) Endüstri psikolojisi
B) Eğitim psikolojisi
C) Sosyal psikoloji
D) Klinik psikoloji

3. Aşağıdakilerden hangisi psikolojinin araştırma yöntemlerinden değildir?

- A) Deneysel
B) Gelişimsel
C) Korelasyonel
D) Betimleyici ve Tanımlayıcı

4. Bilgi veren kişinin doğrudan kendisinin okuyarak cevaplandıracağı sorulardan oluşan soru kâğıtları kullanarak yazılı cevaplar aracılığıyla gözlemlerde bulunma işidir.

Tanımlı verilen tarama yöntemi aşağıdakilerden hangisidir?

- A) Test B) Anket
C) Gözlem D) Görüşme

5. Aşağıdakilerden hangisi organizmada duyumun gerçekleşmesi için gerekli koşullardan biri değildir?

- A) Uyarımlar öncelikle beyinde yorumlanmalıdır.
B) Isı, ışık, basınç gibi bir dış etken olmalıdır.
C) Uyarıcıların şiddeti duyum eşiği sınırları içinde bulunmalıdır.
D) Organizma sağlıklı duyu organları ve duyu sinirlerine sahip olmalıdır.

6. Organizmanın yaşaması, türünü devam ettirmesi ile ilgili güdüler fizyolojik güdü olarak adlandırılır.

Buna göre aşağıdakilerden hangisi fizyolojik güdüdür?

- A) Başarılı olmak
B) Statü kazanmak
C) Güvenlikte olmak
D) Dinlenme ihtiyacı

7. Bir fabrikaya ilk kez giden kişi makinelerin gürültüsünden rahatsız olurken, bir süre sonra gürültü kişiyi rahatsız etmemeye başlar.

Bu durum aşağıdaki kavramların hangisine örnektir?

- A) Yetersiz uyarım
B) Motivasyon
C) Alışma
D) İhtiyaç

8. Duyum ve algı ile ilgili aşağıdakilerden hangisi yanlıştır?

- A) Algı, duyumdan önce gelir ve bilgilerimizin yorumlanmasını sağlar.
B) Duyum fizyolojik bir olaydır; algı ise bu fizyolojik olayın beyinde yorumlanmasıdır.
C) Algılama, duyumların farklı bakış açılarına göre yorumlanmasıdır.
D) Duyum olmadan algı olmaz.

3. OTURUM

9. "Gençlerde günler kısa, yıllar uzun; yaşlılarda günler uzun, yıllar çabuk geçer." sözü aşağıdaki kavramlardan hangisine örnektir?

- A) Objektif zaman
- B) Subjektif zaman
- C) Denge duyumu algısı
- D) Organik duyum algısı

10. Aşağıdakilerden hangisi görsel derinlik algılamasına neden olan çevresel etmenlerden değildir?

- A) Binişim
- B) Işık ve gölge
- C) Algıda bütünlük
- D) Çizgisel perspektif

11. Aşağıdakilerden hangisi algıda seçiciliği etkileyen iç faktörlerdendir?

- A) Uyarıcının şiddeti
- B) Hareketli uyarıcı
- C) Aşırı zıtlıklar
- D) Gereksinme

12. İvan P. Pavlov aşağıdaki öğrenme türlerinden hangisini temsil etmektedir?

- A) Klasik koşullanma yoluyla öğrenme
- B) Edimsel koşullanma yoluyla öğrenme
- C) Model alarak öğrenme
- D) Bilişsel öğrenme

13. Aşağıdakilerden hangisi motor öğrenmeye örnektir?

- A) Bir köpek tarafından ısırıldıktan sonra bütün köpeklerden korkmak
- B) Günlerce üzerinde çalıştığımız bir problemi birden bire çözmek
- C) Bir müzik aleti çalmayı öğrenmek
- D) Öğretmenimiz gibi ders anlatmak

14. I. Yaş
II. Zeka
III. Olgunlaşma

Yukarıdakilerden hangileri öğrenmeyi etkileyen biyolojik faktörler arasında yer alır?

- A) I ve II.
- B) I ve III.
- C) II ve III.
- D) I, II ve III.

15. Aşağıdakilerden hangisi öğrenme başarısını olumsuz yönde etkiler?

- A) Ara vermeden gerçekleşen öğrenme
- B) Anlamlı malzeme
- C) Geri bildirim alma
- D) Yeterli tekrar yapma

16. Aşağıdakilerden hangisi belleğin temel işlemleri arasında değildir?

- A) Kodlama
- B) Anlama
- C) Saklama
- D) Çağırma

17. Uyumadan önce günlük yaşantılardaki kaygı, stres ve çatışmaların gündeme getirilmesi uykuya geçişi zorlaştırır.

Verilen açıklama aşağıdaki uyku bozukluklarından hangisine aittir?

- A) Aşırı uyku
- B) Uyurgezerlik
- C) Kesintili uyku
- D) Uykuya dalma güçlüğü

18. I. Gözden geçirme evresi
II. Kuluçka evresi
III. Hazırlık evresi
IV. İlham evresi

Yukarıda verilen yaratıcı problem çözme evreleri hangisinde doğru olarak sıralanmıştır?

- A) III - II - IV - I
- B) II - IV - III - I
- C) III - IV - II - I
- D) I - II - III - IV

19. Aşağıdakilerden hangisi yaratıcı düşünmeyi engelleyen faktörlerden değildir?

- A) Duygusal
- B) Bilimsel
- C) Kültürel
- D) Algısal

20. Aşağıdakilerden hangisi REM uykusunun özelliklerindendir?

- A) Hızlı göz hareketlerinin görülmediği evredir.
- B) Paradoksal uykudan farklı özellikler gösterir.
- C) Rüyaların büyük bölümü bu evrede görülür.
- D) Organizma bu evrede dış dünyaya açık durumdadır.

(209) SOSYOLOJİ – 2

1. • Sözlük anlamı: "toprağı sürmek, ekip biçmek, tohumların iyileştirilmesi" dir.

• Kimi eserlerde bu kavramın karşılığı olarak "ekin" kullanılmaktadır.

Özellikleri verilen kavram aşağıdakilerden hangisidir?

- A) Kültür
- B) Bilim
- C) Estetik
- D) Uygarlık

2. Aşağıdakilerden hangisi "kültürel gecikme" kavramının tanımıdır?

- A) Kültür ile uygarlık arasındaki ilişkiyi ifade eder.
- B) İnsanın doğayla olan mücadelesinde ortaya çıkan yeniliklerdir.
- C) Maddi kültür unsurlarının toplumsal değişimi hızlandırmasıdır.
- D) Kültürün maddi unsurları hızla değişirken manevi unsurlarının geride kalmasıdır.

3. I. Dil
II. Sanat
III. Okul

Yukarıdakilerden hangileri manevi kültür öğelerindendir?

- A) Yalnız I
- B) Yalnız II
- C) I ve II.
- D) I ve III.

4. Kültürün aşağıda verilen özelliklerinden hangisi yanlıştır?

- A) Sürekliliğe sahiptir.
- B) Hem öğrenilir hem öğretilir.
- C) Toplumsaldır.
- D) Tarihseldir.

5. Köyden, büyük kente göç eden bir bireyin, kendi bölgesine özgü kültürel öğeler ile kentte karşılaştığı yeni kültürel öğeleri kendinde birleştirmesi aşağıdaki kavramlardan hangisiyle ifade edilir?

- A) Kültürel yayılma
- B) Kültürel değişme
- C) Kültürleşme
- D) Kültürlenme

3. OTURUM

6. Toplumsal kurumların özellikleriyle ilgili aşağıdaki ifadelerden hangisi doğrudur?

- A) Toplumsal kurumlar birbirlerinden bağımsız çalışırlar.
- B) Birtakım toplumsal gereksinimleri giderirler.
- C) Her toplumsal kurumda aynı kurallar geçerlidir.
- D) Toplumsal kurumlar değişmeden kalırlar.

7. Aşağıda verilen kurum ve gerçekleştirdiği işlev eşleştirmelerinden hangisi doğrudur?

- A) Aile – Üretim, bölüşüm ve tüketimin düzenlenmesi.
- B) Ekonomi – Neslin devamının sağlanması.
- C) Siyaset – Yasa ve yönetim ilişkilerinin düzenlenmesi.
- D) Hukuk – Toplumun temel değerlerinin kazandırılması.

8. • Toplamların diğer kurumlarına kaynaklık eden en eski ve temel kurumdur.
• Birey sevgi, saygı ve dayanışmayı öncelikle burada öğrenir.

Verilen özellikler aşağıdaki toplumsal kurumlardan hangisine aittir?

- A) Aile
- B) Ekonomi
- C) Din
- D) Siyaset

9. Aşağıdakilerden hangisi eşin seçildiği gruba göre evlilik türlerinden biridir?

- A) Monogami
- B) Matrilokal
- C) Poliandri
- D) Egzogami

10. Evlilik ilişkisinin yasal olarak ortadan kalkmasıdır.

Verilen tanım aşağıdaki kavramlardan hangisine aittir?

- A) Geçimsizlik
- B) Boşanma
- C) Suç işleme
- D) Terk

11. I. İnsanların psikolojik olarak rahatlamalarını sağlar.
II. Bireyin toplum içinde nasıl bir hayat sürmesi gerektiği hakkında öneriler sunar.
III. Bir takım kurallar koyarak toplumsal düzeni sağlamaya çalışır.

Yukarıdakilerden hangileri dinin bireysel işlevlerindedir?

- A) Yalnız I
- B) Yalnız II
- C) I ve II.
- D) I ve III.

12. Her şeyin yaratıcısı ve yöneticisi tek bir Tanrı'dır. Tanrı, cisimlikten uzak soyut bir kavram olarak kabul edilir.

Verilen bilgi aşağıdaki inanışlardan hangisine aittir?

- A) Natürizm
- B) Animizm
- C) Monoteizm
- D) Politeizm

13. Aşağıdaki kavramlardan hangisi ekonomi kurumuna ait değildir?

- A) Sermaye
- B) Halk oylaması
- C) Üretim
- D) Yatırım

14. Fiyatların düşmesi ile birlikte paranın alım gücünün yükselmesi aşağıdaki kavramlardan hangisi ile ifade edilir?

- A) Devalüasyon
- B) Enflasyon
- C) Revalüasyon
- D) Deflasyon

15. Egemenliğin "soyluların" elinde bulunduğu yönetim biçimi aşağıdakilerden hangisidir?

- A) Monarşi
- B) Aristokrasi
- C) Oligarşi
- D) Teokrasi

16. Mısır ve Mezopotamya gibi büyük uygarlıklar verimli topraklar üzerinde kurulup gelişmiştir. Verimli tarım toprakları ve çeşitli maden kaynaklarının varlığı ekonomik zenginliğin artmasına neden olmuş, daha hızlı toplumsal gelişme ve ilerleme sağlanmıştır.

Verilen paragraf toplumsal değişmeyi etkileyen aşağıdaki faktörlerden hangisiyle ilgilidir?

- A) Bilim ve teknoloji
- B) Kitle iletişim araçları
- C) Fiziki çevre
- D) Ekonomi

17. I. Orta tabaka genişlemesi
II. Ekonomik büyüme
III. Toplumsal bütünleşme

Yukarıdakilerden hangileri toplumsal gelişmenin göstergelerindedir?

- A) I ve II.
- B) I ve III.
- C) II ve III.
- D) I, II ve III.

18. Aşağıdakilerden hangisi toplumsal çözülmenin nedenlerinden değildir?

- A) Millî birlik bilincinin zayıflaması
- B) Toplumda iş bölümünün sağlanması
- C) Toplumsal kurum ve normların değişmeden kalması
- D) Bireylerin toplumsal sorunlara duyarsız kalarak topluma yabancılaşması

19. Daha iyi duruma getirmek için yapılan değişiklik, düzeltme anlamına gelen kavram aşağıdakilerden hangisidir?

- A) İnkılap
- B) İhtilal
- C) Demografi
- D) Evrim


20. Toplumsal değişmeyle ilgili aşağıdaki ifadelerden hangisi yanlıştır?

- A) Değişmenin hızı toplumdan topluma farklılık göstermektedir.
- B) Değişme bütün toplumlar için kaçınılmaz ve evrenseldir.
- C) Bazı toplumsal kurumlar aynı kalırlar.
- D) Değişme doğal bir olgu ve zorunluluktur.

(242) İNGİLİZCE – 3

1 - 20. sorularda boş bırakılan yere uygun gelen kelime ya da ifadeyi işaretleyiniz.

1.



My mother is a - - - - at a public school.

- A) driver
- B) doctor
- C) lawyer
- D) teacher

2. - - - - man in front of the house is my father.

- A) A
- B) -
- C) The
- D) An

3. I can't understand this question. It is really - - - - .

- A) fun
- B) difficult
- C) punctual
- D) dangerous

4. Robert : - - - - one do you like?
Football or basketball?
Merlin : Basketball.

- A) Who
- B) When
- C) Which
- D) Whose

3. OTURUM

5. **Joe** : - - - - does the game start?
Tim : At 9 p.m.

- A) When B) What
C) Who D) Why

6. **Rose** : - - - - do you do on Saturdays?

Nina : I meet my friends and watch movies.

- A) Whose B) Which
C) What D) Why

7. **Mark** : - - - - your father work at weekends?

Rick : No, he - - - -.

- A) Don't / do B) Do / don't
C) Does / does D) Does / doesn't

8. **The shopping mall** - - - - at 9 p.m. on weekdays.

- A) close B) closes
C) to close D) closing

9. **This is** - - - - new car. **My father** bought it last week.

- A) ours B) our
C) we D) us

10. **Anna** : - - - - is your mother?
Tina : She is forty years old.

- A) Where B) Whose
C) How old D) What time

11. **My sister is** - - - - her homework now.

- A) do B) does
C) done D) doing

12. **We** - - - - on a picnic on Sundays.

- A) go B) goes
C) to go D) going

13. **We are going to visit the city museum** - - - -.

- A) usually B) yesterday
C) next week D) last month

14. **I usually drink coffee in the morning** - - - - this morning I'm drinking tea.

- A) and B) but C) nor D) for

15. **I left a message for the boss** - - - - he wasn't in the office.

- A) for B) or C) just D) so

16. **Don't** - - - - the window! It is cold here.

- A) speak B) come
C) open D) tidy

17. **I can't speak on the phone now.** I am - - - - a car.

- A) living B) going
C) eating D) driving

18. **I wrote** - - - - letters yesterday.

- A) much B) many
C) an D) a

19. **I love** - - - - family very much.

- A) I B) my
C) me D) mine

20. **My friends visit** - - - - grandparents every Saturday.

- A) their B) they
C) them D) theirs

(242) ALMANCA – 3

1 - 19. sorularda boş bırakılan yere uygun gelen kelime ya da ifadeyi işaretleyiniz.

1. **Das Kind schläft lange** - - - - Bett.

- A) bis B) weil
C) im D) über

2. **Ali fährt** - - - - Istanbul.

- A) aber B) nach
C) zur D) und

3. **Die Post liegt** - - - - dem Restaurant und der Schule.

- A) neben B) auf
C) über D) zwischen

4. **Helga** - - - - auf dem Sofa und sieht fern.

- A) sitzt B) läuft
C) schwimmt D) schläft

5. **Herr Müller geht in** - - - - Supermarkt.

- A) der B) die
C) das D) den

6. **Herr Ober, ich** - - - - gern einen Döner mir Salat bitte!

- A) habe B) bin
C) hätte D) war

7. **Drücken Sie auf den rot-** - - - - Knopf, rechts neben der Maschine.

- A) -e B) -es C) -er D) -en

8. **A:** - - - - heißt dieser Ort?
B: Efes.

- A) Wer B) Wie C) Wo D) Wann

9. **Mein Vater hat das** - - - - Radio repariert.

- A) alten B) alt
C) alte D) altes

10. **Im Sommer** - - - - ich mit meiner Familie Urlaub machen.

- A) bin B) werde
C) habe D) ist

11. **Hans** - - - - jeden Morgen um 6.30 Uhr - - - -.

- A) steht / auf B) läuft / ein
C) arbeitet / von D) von / bis

12. **gehen,** - - - -, **gegangen**

- A) geht B) gehst
C) ging D) gehe

13. **Im Sommer will ich meinen Onkel in Aydın** - - - -.

- A) besuchen B) Urlaub
C) fahren D) fliegen

3. OTURUM

14. Helga - - - - lange auf den Anruf von Hasan.

- A) schlief B) wartete
C) kam D) rief

15.



Ich - - - - mit Petra.

- A) telefoniere B) schwimme
C) laufe D) fahre

16. Ich - - - - nicht mit dir nach Edirne fahren.

- A) bin B) war
C) fliege D) werde

17. Herr Schmidt ist ein sehr interessant- - - - - Lehrer.

- A) - B) -e C) -er D) -es

18. lang, - - - -, am längsten

- A) langte B) länger
C) längste D) lange

19. A: Wohin hast du das Buch gelegt?
B: Auf - - - - Tisch.

- A) der B) dem
C) den D) das

20. Aşağıdaki kelimelerden hangisinin Türkçe karşılığı yanlış verilmiştir?

- A) der Berg = dağ
B) windig = rüzgârlı
C) Das Flugzeug = uçak
D) der Urlaub = seyahat

(242) FRANSIZCA – 3

1 - 18. sorularda boş bırakılan yere uygun gelen sözcük ya da ifadeyi bulunuz.

1. - - - - ont deux chats et un chien.

- A) Nous B) Vous
C) Ils D) Elle

2. - - - - sont montées sur la tour Eiffel.

- A) Ils B) Elle
C) Il D) Elles

3. Le tableau - - - - est sur le mur est Fikret Muallâ.

- A) que B) qui
C) où D) dont

4. La ville - - - - elle est née est une petite ville.

- A) dont B) qui
C) où D) donc

5. Le jeune homme - - - - je regarde porte une cravate en soie.

- A) dont B) qui
C) où D) que

6. - - - - il pleut, il porte toujours des bottes.

- A) Quand B) Comment
C) Pourquoi D) Combien

7. Je me suis promené dans les rues de Mardin - - - - deux mois.

- A) sous B) il y a
C) au D) dans

8. Mon frère aime faire du - - - - à Iğaz.

- A) musique B) natation
C) ski D) marche

9. - - - - Paul ira à la montagne pour observer les oiseaux.

- A) Demain
B) Pendant
C) Le mois dernier
D) Hier

10. La ville - - - - tu parles est au sud de la France.

- A) que B) qui C) où D) dont

11. Les jeunes boivent du thé - - - - le match de basket à la télé.

- A) en regardant
B) regarder
C) regardant
D) regardé

12. J'ai rencontré ton fils - - - - du théâtre.

- A) revenue B) revient
C) revenir D) revenant

13. Le week-end, je lis mon journal en - - - - du café.

- A) lisant B) buvant
C) sachant D) dansant

14. Ils ne vont pas - - - - la poste - - - - métro.

- A) au / en B) en /aux
C) à / à D) à / en

15. Pour acheter des médicaments, je vais à - - - -.

- A) la pharmacie
B) le boucher
C) la librairie
D) le restaurant

16. Zeynep - - - - au troisième étage.

- A) es montée B) est montée
C) est monté D) a monté

17. Pour déclarer un vol, je vais - - - -.

- A) chez les pompiers
B) au commissariat de police
C) à la mairie
D) au théâtre

18. Dans une piscine, on - - - -.

- A) s'habille B) se rase
C) se réveille D) se baigne

3. OTURUM

19. "Son grand-père a 82 ans." cümlesinde altı çizili sayının doğru yazılışı hangisidir?

- A) quatre-vingt-deux
- B) quatre cents
- C) quatre-vingt-onze
- D) quarante-deux

20. "Mon fils et son ami sont partis pour la France." cümlesinde altı çizili sözcüklerin yerine aşağıdaki şahıs zamirlerinden hangisi kullanılabilir?

- A) Vous
- B) Nous
- C) Ils
- D) Elles

(403) DİL VE ANLATIM – 3

1. Tarih öğretmeni sınıftaki öğrencilere "İstanbul kaç yılında fethedildi?" diye sordu.

Bu cümlede aşağıdaki iletişim öğelerinden hangisine yer verilmiştir?

- A) Kaynak
- B) Dönüt
- C) İleti
- D) Bağlam

2. Söylev türünde dil genellikle hangi işlevde kullanılır?

- A) Alıcıyı harekete geçirme
- B) Göndergesel
- C) Şiirsel
- D) Dil ötesi

3. Aşağıdaki konulardan hangisi diğerlerine göre daha fazla sınırlanmıştır?

- A) Kadın hakları
- B) Avrupa'da kadın hakları
- C) Türkiye'de kadın hakları
- D) Dünyada kadın hakları

4. Bütün sokaklar onundur; bu büyük şehir onun için bitmez tükenmez koridorlardan, hollerden, avlulardan meydana gelen geniş bir evdir. Şehrin içinde istediği gibi, ellerini içi yırtılmış ceplerine sokarak daima kesilmeye muhtaç saçlarının tepesinde islama bozulmuş püskülsüz fesiyle, çorapsız ayaklarına daima büyük gelen yırtık potinleriyle dolaşır.

Bu parçada aşağıdaki anlatım biçimlerinden hangisi kullanılmıştır?

- A) Tartışmacı
- B) Açıklayıcı
- C) Öğretici
- D) Betimleyici

5. Yıkılmış hanumanlar yerde işkenceyle kıvransın;
Serilmiş gövdeler, binlerce, yüz binlerce doğransın!
Dolaşsın sonra, İslam'ın haremğâhında na-mahrem...
Benim hakkım, sus ey bülbül, senin hakkın değil matem...

Bu dizelerde aşağıdaki anlatım biçimlerinden hangisi kullanılmıştır?

- A) Coşku ve heyecana bağlı
- B) Emredici
- C) Kanıtlayıcı
- D) Mizahi

6. Aşağıdakilerin hangisinde anlatım, kahraman bakış açısıyla yapılmıştır?

- A) Yılkı çobanlarının dumana boğulmuş ve yağmurla yıkanmış çadırları; su basan arazide, kızarmış çayırların üzerinde kapkara duruyordu. Buğu tüten kap ağızlarında kokulu, ince, mavi dumanlar yükseliyordu.
- B) Osmanlı kuvvetleri irili ufaklı üç yüz altmış gemiyle Müezzinzade Ali Paşa kumandasında, Mayıs 1570 tarihinde İstanbul'dan hareket etti. Donanmada, Piyale Paşa da bulunuyordu. Piyale Paşa denizden gelecek tehlikelere karşı görevlendirilmişti.
- C) Üçüncü gün şafak sökmeden kardeşi ile nişanlısını birleştirmiş, mühleti geçirmemek için mümkün olduğunca acele geri dönüyordu. Fakat sürekli bir yağmur çabuk yürütmesine mani oldu.
- D) İznimin son günü. Saat 12'ye geliyor. Koltukta başım yana dönmüş, uyuyakalmışım. Böyle her uykulayıp uyanışta aklıma ilk gelen saat olur. Bu defa inanılmaz bir şey oldu: Silkinince saat aklıma gelmedi. Olacak iş mi bu?

7. Deli Davut, uykusundaki gülümsemesinin halesiyle gökkuşağının çemberini tamamlıyordu. Denize düşen çiğ tanesinin, ayrılığını denizde kaybetmesi gibi Deli Davut da adanın ayrılığını yitiriyordu. Gündüz, çocuklar gibi gülüşe gülüşe ve sonsuz bir neşeyle gelmişlerdi. Ay ışığında ise aynı gülümseme onları birbirine sarıyordu.

Bu parçanın anlatımıyla ilgili aşağıdakilerden hangisi söylenemez?

- A) Nesnel cümleler bulunmaktadır.
- B) Betimleyici öğeler kullanılmıştır.
- C) Soyut anlatımdan yararlanılmıştır.
- D) Benzetmeye yer verilmiştir.

8. Aşağıdakilerden hangisi bir paragrafın giriş cümlesi olmaya en uygundur?

- A) Birçok şairin de bu dergide yer almak istediğini biliyoruz.
- B) Çoğunluğu çeviri onlarca kişisel gelişim kitabı, örümcek ağı gibi sarıp sarmalıyor okuru.
- C) Bir kısmı sorun çözeceği yerde çizdiği pembe tablolarla mutsuzluğu körükliyor.
- D) Çocuk edebiyatının sürekli yayınlarda da yer alması gerekir.

9. (I) Behramkale adıyla da bilinen Assos'ta şehrin kuruluşu MÖ 7. yüzyıla dayanır. (II) Midilli Adası'ndan gelen topluluklar tarafından kurulduğu sanılan şehir; Persler, Lidyalılar ve Romalılardan sonra Osmanlı hâkimiyetine geçmiştir. (III) Osmanlı hâkimiyetine geçtikten sonra imar faaliyetleri başlatılmıştır. (IV) Volkan konisi üzerine kurulan Assos, insanı ister istemez tarihî bir atmosferin içine sokuyor.

Bu parçada numaralanmış cümlelerin hangisinde öznel bir anlatım söz konusudur?

- A) I.
- B) II.
- C) III.
- D) IV.

10. Aşağıdakilerden hangisi alışılmamış bağdaştırmaya örnektir?

- A) Kuruyan eller
- B) Ağlayan insanlar
- C) Gülümseyen bulutlar
- D) Çalı demetleri

11. Aşağıdakilerin hangisinde anlatım bozukluğu vardır?

- A) Şiirle roman dışında neredeyse bütün türlerde yazdım.
- B) Bu, bir bayram günü tanışıp arkadaşlık ettikleri çocuk mu?
- C) Akşamüstü ahşap evin perdeleri yanlara doğru açıldı.
- D) Başarısız olmasında tembelliğinin katkısı çok büyüktü.

12. Aşağıdakilerden hangisi tartışma yönteminin aşamalarından değildir?

- A) Kullanılacak uygun dil işlevlerinin seçilmesi
- B) Tartışma probleminin seçimi
- C) Tartışmayı yönlendirecek soruların belirlenmesi
- D) Araç ve tekniklerin tespit edilmesi

13. Aşağıdakilerden hangisi bir tartışma türüdür?

- A) Sohbet
- B) Eleştiri
- C) Açık oturum
- D) Anket

3. OTURUM

14. Aşağıdakilerden hangisi tartışmanın amaçlarından değildir?

- A) Kanı, gözlem ve inançları etkilemek
- B) Herkesin aynı şekilde düşünmesini sağlamak
- C) Bir konunun olumlu ve olumsuz yönlerini belirtmek
- D) Farklı ve yeni düşünceler edinmek

15. Ilgaz Dağı Geçidi, Çankırı kent sınırları içindeki Ilgaz Dağı'ndadır. Kastamonu-Çankırı otoyolu üzerindeki bu geçidin deniz seviyesinden yüksekliği 1875 metredir. Bu geçitten geçişi kolaylaştırmak için inşa edilen tünelin uzunluğu 5300 metredir.

Bu parçada dil, aşağıdaki işlevlerin hangisiyle kullanılmıştır?

- A) Dil ötesi
- B) Kanalı kontrol
- C) Alıcıyı harekete geçirme
- D) Göndergesel

16. I. Toplumunu ilgilendiren bir konu dinleyiciler önünde sohbet havası içinde tartışılır.
II. Sonunda dinleyiciler konuşmacılara soru sorarlarsa panel, sempozyuma dönüşür.
III. Bir konu üzerinde karara varmak amaçlanır.
IV. Bir başkan bulunur ve konuşmacı sayısı üç ila altı arasında değişir.

Numaralanmış cümlelerin hangilerinde panel ile ilgili yanlış bilgi verilmiştir?

- A) I ve III.
- B) I ve IV.
- C) II ve III.
- D) II ve IV.

17. Aşağıdakilerden hangisi söylemeye bağlı anlatımla oluşturulmuş metinlerden değildir?

- A) Deneme
- B) Sohbet
- C) Mülakat
- D) Monolog

18. Öğretmen, ödevimi ayrıntılı bir şekilde, kılı kırk yararak inceledi.

Bu cümledeki anlatım bozukluğunun nedeni aşağıdakilerden hangisidir?

- A) Anlamca çelişen sözcüklerin bir arada kullanılması
- B) Yanlış anlamda sözcük kullanılması
- C) Sözcüğün yanlış yerde kullanılması
- D) Gereksiz sözcük kullanılması

19. Öğrencilerin imtihan kâğıtlarını okuyorum. Çoğunda bir yığın bilgi var fakat bunların konu ile ilgisi yok ve çoğu karmakarışık. Kompozisyon işte bunların zıddıdır. Çeşitli konularda düzensiz bir yığın bilgiye sahip olmak yeterli değildir. Öğrenci herhangi bir konuda lüzumlu ile lüzumsuzu seçebilmeli, fikirlerini bir sıraya koymasını öğrenmelidir.

Bu parçada aşağıdaki anlatım türlerinden hangisi kullanılmıştır?

- A) Mizahi
- B) Öyküleyici
- C) Betimleyici
- D) Açıklayıcı

20. Karışık bir taş, demir ve cam yığını bir araya geldi mi bir mimari eser vücuda gelmez. Yapı için elbette buna benzer malzemeye ihtiyaç vardır. Fakat mimari, her şeyden önce bir düzendir. Her taş, bir planın içinde yerli yerine konulunca bina göklere yükselir ve bir saadet şarkısı söyler.

Bu parçada sanat eserleriyle ilgili vurgulanmak istenen düşünce aşağıdakilerden hangisidir?

- A) Farklı yorumlara açık olmalıdır.
- B) Üslubu dikkat çekici olmalıdır.
- C) İçinde bir düzen barındırmalıdır.
- D) Toplumdan izler taşmalıdır.

(405) DİL VE ANLATIM – 5

1. Sanatsal metinler için aşağıdakilerden hangisi söylenemez?

- A) Okuyan kişilerin hepsi aynı yorumu yapar.
- B) Anlatış biçimi ve estetik önemlidir.
- C) Toplumun zevk ve kültürünü içinde barındırır.
- D) Kelimeler genellikle mecaz anlamda kullanılır.

2. Kavuklu: Sorma Tosuncuğum! Bir felaket atlattım ki tarifi kabul etmez. Pişekâr: Aman, geçmiş olsun Hamdiciğim!
Kavuklu: Geçmiş olsun ki geçmiş olsun!
Pişekâr: Naklet bakayım, merak ettim.

Bu parça aşağıdakilerin hangisine örnektir?

- A) Anlatmaya dayalı metinlere
- B) Kişisel hayatı konu alan metinlere
- C) Göstermeye dayalı metinlere
- D) Gazete etrafında gelişen metinlere

3. Aşağıdakilerden hangisi anlatmaya dayalı metinlerden değildir?

- A) Manzum hikâye
- B) Mesnevi
- C) Masal
- D) Trajedi

4. 17 Nisan Cuma, 1953

Baktım çocuklar uçurtma uçuruyor. Her yıl ilk yaz aylarında, uçurtmayı gördüm mü bir üzüntü kaplar içimi, ağlamaklı olurum. Ben uçurtma uçurmadım ki!.. Çocukluğumda pek istedim, o renk renk kâğıtlardan yapılmış uçurtmaların havalanmasına içimi çekerek bakardım.

Bu parça aşağıdaki metin türlerinin hangisinden alınmıştır?

- A) Mektuptan
- B) Günlükten
- C) Anıdan
- D) Makaleden

5. Aşağıdakilerden hangisi anı ile günlük türünün ortak özelliği olarak söylenebilir?

- A) Nesnel olmaları
- B) Günü gününe yazılmaları
- C) İçten bir anlatıma sahip olmaları
- D) 3. kişi ağzıyla yazılmaları

6. 15 Haziran 1925'te İzmir'in Menemen ilçesinde doğdu. 11 Ekim 2005'te İstanbul'da yaşamını yitirdi. İzmir'de Karşıyaka Cumhuriyet İlkokulu ve Karşıyaka Ortaokulunu bitirdi. Atatürk Lisesini bitirdikten sonra girdiği İstanbul Üniversitesi Hukuk Fakültesindeki öğrenimini yarıda bıraktı. Yeni Ortam, Dünya, Milliyet, Söz gazetelerinde köşe yazıları yazdı.

Bu parça aşağıdaki metin türlerinin hangisinden alınmıştır?

- A) Biyografiden
- B) Anıdan
- C) Otobiyografiden
- D) Günlükten

7. İzmir'de balıkçı ağlarına takılan camgöz cinsi köpek balığı, bir balıkçıda sergilenmeye başlandı. Ağlara dolanan camgöz cinsi köpek balığını, mezattan bir vatandaş satın aldı.

Bu parça aşağıdaki anlatım özelliklerinden hangilerine sahiptir?

- A) Öznel – dolaylı – somut
- B) Nesnel – doğrudan – somut
- C) Öznel – doğrudan – soyut
- D) Nesnel – dolaylı – soyut

3. OTURUM

8. Çanakkale Savaşı'yla ilgili yayımlanmış yapıtların büyük çoğunluğu, ne yazık ki, yabancı kaynaklıdır. Özellikle savaş sırasındaki olaylar hakkında önemli ipuçları veren anılar, araştırmalar ve görsel malzemeler o dönemde düşmanımız olan ülkelerin arşivlerinde Türk tarafıyla kıyaslanamayacak denli çoktur. **Bu parçanın anlatımında aşağıdaki-lerin hangisinden yararlanılmıştır?**
- A) Tanımlamadan
B) Öykülemekten
C) Benzetmeden
D) Karşılaştırmadan
9. **Aşağıdakilerden hangisi fıkra ile denemenin ortak özelliklerinden değildir?**
- A) Herhangi bir konu üzerinde yazılmaları
B) Öznel bir tutumla oluşturulmaları
C) Kanıtlama amacı taşımaları
D) Yalın ve içten bir dil kullanılması
10. - - - - "ben" in ülkesidir. Ben demekten çekinen, her görgüsüne, her görevine ister istemez benliğinden bir parça kattığını kabul etmeyen kişi bu türe özenmesin. Çünkü "ben" in ne ispata ne de kendini olduğu gibi anlatmaya ihtiyacı vardır. **Bu parçada boş bırakılan yere aşağıdaki türlerden hangisi getirilmelidir?**
- A) Deneme B) Makale
C) Haber yazısı D) Biyografi
11. **Aşağıdakilerden hangisi makale türü için söylenemez?**
- A) Öne sürülen tez inandırıcı olmalıdır.
B) Dil genellikle göndergesel işlevde kullanılır.
C) Anlatım açık, sade ve duru olmalıdır.
D) Sanat metinlerinin özelliklerini taşır.
12. Bizde tenkit elbette yok. Tenkidi, tenkit ahlakını sanat adamları kurar. Onlar sanatla ilişkisi olmayan duygularla, düşüncelerle birbirini övdükçe, sanatlarını her şeyden ve kendi kendilerinden üstün tutup yalandan kaçınmadıkça bizde tenkit olmayacaktır. Sanat adamlarında olmayan bir ahlakı tenkitçiden nasıl bekleyebiliriz? **Bu parça aşağıdaki metin türlerinin hangisinden alınmıştır?**
- A) Gezi yazısı B) Eleştiri
C) Makale D) Otobiyografi

13. **Aşağıdakilerden hangisi eleştiri yazarı için söylenemez?**
- A) Ele aldığı kişi veya eseri bütün özellikleri ile ortaya koymalıdır.
B) Değerlendirmelerinde özneldir.
C) Geçmişin ve çağın sanat olaylarını bilmelidir.
D) Eleştirirken yıkıcı değil yapıcı olmalıdır.
14. I. Tiyatro – Göstermeye dayalı edebî metin
II. Roman – Coşku ve heyecanı dile getiren edebî metin
III. Sohbet – Kişisel hayatı konu alan öğretici metin
IV. Makale – Gazete çevresinde gelişen öğretici metin
- Yukarıdaki numaralanmış eşleştirmelerden hangileri yanlıştır?**
- A) I ve II. B) I ve IV.
C) II ve III. D) III ve IV.
15. **Aşağıdakilerden hangisi göstermeye dayalı metinlerden değildir?**
- A) Masal B) Orta oyunu
C) Meddah D) Komedi
16. 27.02.2017
TÜRK DİL KURUMU
BAŞKANLIĞINA
ANKARA
Kurumunuz tarafından yayımlanan ve aşağıda ismi yazılan eseri, verilen adrese göndermenizi saygılarımla arz ederim.
Türkçe Sözlük: 20 adet
- İmza
Adı Soyadı
- Başak Kırtasiyesi
Tıp Fakültesi Cad.
Mamak / ANKARA
- Bu mektup aşağıdakilerden hangisine örnektir?**
- A) Edebî mektup B) Resmî mektup
C) Özel mektup D) İş mektubu
17. Türk edebiyatında ilk biyografi yazarı XV. yüzyılda yaşayan - - - -. XX. yüzyılda - - - - modern anlamda biyografi türünün ilk örneklerini vermiştir. **Bu cümlede boş bırakılan yerlere aşağıdakilerden hangileri sırasıyla getirilmelidir?**
- A) Fuzulî'dir – Ömer Seyfettin
B) Ali Şir Nevai'dir – Fuat Köprülü
C) Nedim'dir – Neziha Aras
D) Şeyhî'dir – Şevket Süreyya Aydemir

18. **Aşağıdaki biyografi ve otobiyografi karşılaştırmalarından hangisi yanlıştır?**
- A) Biyografiler nesnel, otobiyografiler öznel.
B) Biyografiler gerçek, otobiyografiler kurmacadır.
C) Her iki türde de öyküleyici anlatım kullanılabilir.
D) Biyografilerde 3. kişili, otobiyografilerde 1. kişili anlatım vardır.
19. **Aşağıdaki parçalardan hangisi sanatsal metne örnektir?**
- A) Ziya Gökalp, 23 Mart 1876'da Diyarbakır'da doğdu. 25 Ekim 1924'te İstanbul'da yaşamını yitirdi. Eğitimine Diyarbakır'da başladı. Romanın çok sevilen bir edebiyat türü olduğu gerçektir. Nereye giderseniz gidiniz, onun çok okunduğunu görürsünüz. Şiir için de durum böyledir.
B) Romanın çok sevilen bir edebiyat türü olduğu gerçektir. Nereye giderseniz gidiniz, onun çok okunduğunu görürsünüz. Şiir için de durum böyledir.
C) Ağaçta âdeti bir kovalamaca oyununa başladık. O yaklaştıkça ben yukarılara çıkıyordum. Fakat dallar gittikçe inceliyordu. Bir aralık duvarın üstüne atlayıp kaçmayı düşündüm.
D) 1 Kasım 1928'de, daha önce Türkçeyi yazmak için kullanılan Arap harfleri yerine Latin esassından alınan harfler, Türk dilinin özelliklerini belirten işaretlere yer vererek Türk harfleri adı ile kullanılmaya başlanmıştır.
20. **Aşağıdakilerden hangisi makale yazarlarımızdan biri değildir?**
- A) Namık Kemal
B) İbrahim Şinasi
C) Ziya Paşa
D) Abdülhak Hamit Tarhan
- (406) DİL VE ANLATIM – 6**
1. **Röportaj aşağıdaki türlerden hangisiyle benzerlik gösterir?**
- A) Makale B) Söylev
C) Fıkra D) Anı
2. - - - - - ?
— Şiir bir hissin ifadesi demektir. Bence gerçek şiir duygulu olmalıdır. **Bu parçada boş bırakılan yere aşağıdakilerden hangisi getirilmelidir?**
- A) Şiir topluma yön veren bir tür müdür
B) Sızca şiir nedir, ne olmalıdır
C) Şiir dilinin özellikleri nelerdir
D) Şiirin diğer türlerden farkı nedir

3. OTURUM

3. Röportaj türünde aşağıdaki anlatım türlerinden hangisinin kullanımını daha azdır?

- A) Öğretici B) Kanıtlayıcı
C) Emredici D) Betimleyici

4. Aşağıdakilerin hangisinde röportaj ile mülakat türünün karşılaştırılması yanlış yapılmıştır?

- A) Röportaj yazılı, mülakat sözlü bir anlatım türüdür.
B) Röportajlarda öznellik, mülakatlarda nesnellik hâkimdir.
C) Röportajlarda derinlemesine inceleme yapılırken mülakatlarda ayrıntıya girilmez.
D) Röportajlarda konu dışına çıkılabilmemesi mülakatlarda konuşulanların dışına çıkmaz.

5. Hacı Bayram-ı Veli'yi konu alan bir röportaj, - - - röportaja örnektir.

Bu cümlede boş bırakılan yere aşağıdakilerden hangisi getirilmelidir?

- A) inanışı konu alan
B) eşyayı konu alan
C) yeri konu alan
D) insanı konu alan

6. — Bunu siz yaşamasaydınız da aynı tepkiyi verirdiniz değil mi?

— Tabii canım, olacak şey mi? Düşünmeye başladım; hiçbir yerde "engelliler ve yaşlılar" diye bir şey görmedim ben. Hiç! Bu ne demek?

— Engelli ve yaşlıların gezmesi herhâlde pek beklenmiyor Türkiye'de?

— Yaşlılar otursun evde yani! İnadım inat yaşayacağım. İnadım inat, işe devam!

Bu metnin türü aşağıdakilerden hangisidir?

- A) Deneme B) Mülakat
C) Fıkra D) Sohbet

7. Aşağıdakilerden hangisi röportajın özelliklerinden biri değildir?

- A) Ele alınan konular toplumu ilgilendirmelidir.
B) Okuyucunun dikkatini çekecek şekilde düzenlenmelidir.
C) Çeşitli ses kayıtları, belge ve fotoğraflardan yararlanılabilir.
D) Oldukça ağır ve sanatlı bir dille yazılır.

8. Aşağıdaki sanatçılardan hangisi hem röportaj hem de mülakat türünde eserler vermiştir?

- A) Orhan Veli Kanık
B) Ahmet Haşim
C) Hikmet Feridun Es
D) Faruk Nafiz Çamlıbel

9. Yurttaşlarımız! Az zamanda çok ve büyük işler yaptık; bu işlerin en büyüğü, temeli Türk kahramanlığı ve yüksek Türk kültürü olan Türkiye Cumhuriyeti'dir. Bundaki muvaffakiyeti, Türk milletinin ve onun değerli ordusunun bir ve beraber olarak, azimkârane yürütmesine borçluyuz...

Bu metnin türü aşağıdakilerden hangisidir?

- A) Konferans B) Söylev
C) Açık oturum D) Münazara

10. "Onuncu Yıl Nutku" aşağıdaki söylev türlerinden hangisiyle yazılmıştır?

- A) Askerî B) Hukuksal
C) Akademik D) Siyasi

11. İbadethanelerde dinî esasları açıklayan, bireysel ve toplumsal sorunları dinsel açıdan yorumlayan söylevlerdir. İslami toplumlarda bu tür söylevlere - - - denir.

Bu parçada boş bırakılan yere aşağıdakilerden hangisi getirilmelidir?

- A) hutbe B) hitabet
C) sohbet D) ayin

12. Aşağıdakilerin hangisinde söylev türü ile ilgili bir bilgi yanlıştır?

- A) Özellikle millî ve manevî konularda hazırlanır.
B) Konuşma boyunca yüksek ses tonu kullanılmalıdır.
C) Dinleyicilerin kültür düzeyleri dikkate alınmalıdır.
D) Dinleyicinin ilgisini çekecek cümleler kullanılmalıdır.

13. Aşağıdaki eserlerden hangisi söylev türünün özelliklerini taşımaktadır?

- A) Göktürk Yazıtları
B) İstiklal Marşı
C) Ankara
D) Köroğlu Destanı

14. Aşağıdaki sanatçı – eser eşleştirmelerinden hangisi yanlıştır?

- A) Yaşar Kemal – Çukurova Yana Yana
B) Yaşar Nabi Nayır – Edebiyatçılarımız Konuşuyor
C) Nurullah Berk – Ustalarla Konuşmalar
D) Fikret Otyam – Edebiyatçılar Ne Diyorlar?

15. Aşağıdakilerden hangisi mülakat yazarlarından biri değildir?

- A) Mustafa Baysal
B) Serhat Sami Uysal
C) Ruşen Eşref Üneydin
D) Atilla İhan

16. Antalya'yı konu alan bir röportaj, aşağıdaki türlerin hangisiyle benzerlik gösterir?

- A) Mülakat B) Makale
C) Gezi yazısı D) Söylev

17. Aşağıdakilerden hangisi edebiyatımızın önemli söylevcilerinden biridir?

- A) Kemal Tahir
B) Hamdullah Suphi Tanrıöver
C) Buket Uzuner
D) Orhan Pamuk

18. Aşağıdaki cümlelerin hangisinde bilgi yanlıştır?

- A) Söylev türünün ilk örnekleri Eski Yunan ve Roma Dönemleri'nde görülür.
B) Mülakatlarda alınan cevaplar aynen aktarılır.
C) Röportajlarda ağır ve sanatlı bir dil kullanılır.
D) Mülakatlar soru ve cevaplardan oluşur.

19. - - - yapan kişi, elde ettiği bilgilere kendi görüş ve düşüncelerini de katar. - - - ise yazar kendi görüş ve düşüncelerini ortaya koymaz.

Bu parçada boş bırakılan yerlere sırasıyla aşağıdakilerden hangisi getirilmelidir?

- A) Röportaj – Mülakatta
B) Mülakat – Makalede
C) Röportaj – Sohbet
D) Mülakat – Denemede

3. OTURUM

20. Dilin alıcılığı hareketine geçirme işlevi aşağıdaki türlerin hangisinde daha çok görülür?

- A) Röportaj B) Deneme
C) Makale D) Söylev

(413) TÜRK EDEBİYATI – 3

1. Bir şaheseri incelemedeki amacımız o milletin edebî gelişimini gereği gibi ve doğru olarak anlamaktır. Çünkü bir şaheser neticede mutlaka toplumsal bir ülkünün ifadesidir.

Bu parçada şaheserlerle ilgili asıl anlatılmak istenen aşağıdakilerden hangisidir?

- A) Sanatçıların kişisel görüş ve anlayışlarını yansıttıkları
B) Millî ruhu ve hayatı yansıtan bir ayna olduğu
C) Sanatçıların en önemli eserleri oldukları
D) Yazıldığı dönemin edebî anlayışı hakkında bilgi verdikleri

2. Edebî çalışmalarının ağırlık noktası edebiyat tarihidir. Bu anlayışla edebiyatımızın gelişimini bir bütün olarak ele alan - - - - birçok dönemi ve eseri gün ışığına çıkardı. Bütünüyle bir kenara bırakılmış halk edebiyatını ve şairlerini tanıttı.

Bu parçada boş bırakılan yere aşağıdakilerden hangisi getirilmelidir?

- A) Mehmet Fuad Köprülü
B) Halide Edip Adıvar
C) Fazıl Hüsnü Dağlarca
D) Muharrem Ergin

3. Aşağıdakilerden hangisi edebiyat tarihlerinin hazırlanış amaçlarından değildir?

- A) Edebiyat türlerinin gelişimini göstermek
B) Değişik çağlardaki kültür birikimini tanıtmak
C) İncelenen sanatçıların dünya görüşleri hakkında bilgi vermek
D) Geçmişte yaşayan sanatçılarımızın sanat anlayışlarını ortaya koymak

4. Aşağıdakilerden hangisi Türk edebiyatının dönemlere ayrılmasındaki ölçütlerden değildir?

- A) Kültürel farklılaşma
B) Dil coğrafyasındaki değişimler
C) Din değişikliği
D) Alfabe değişikliği

5. "Destan, koşuk, sav ve sagular" aşağıdaki dönemlerden hangisinin ürünleridir?

- A) Sözlü edebiyat
B) Yazılı edebiyat
C) Anonim halk edebiyatı
D) Âşık tarzı halk edebiyatı

6. Batı Etkisinde Gelişen Türk Edebiyatı Dönemi'nin başlamasında aşağıdakilerden hangisi etkili olmuştur?

- A) Latin alfabesinin kabulü
B) Tanzimat Fermanı'nın ilanı
C) Cumhuriyet'in ilanı
D) Meşrutiyet'in ilanı

7. Aşağıdaki eserlerden hangisinin sözlü edebiyat ürünlerinin günümüze kadar ulaşmasında önemli bir payı vardır?

- A) Mesnevi
B) Seyahatname
C) Türk Edebiyatı Tarihi
D) Divanü Lügat'it Türk

8. Aşağıdakilerden hangisi İslamiyet Öncesi Türk şiirinde işlenen konulardan değildir?

- A) Kahramanlık B) Doğa sevgisi
C) Tasavvuf D) Aşk

9. Aşağıdakilerden hangisi destanların ortak özelliklerinden değildir?

- A) Yarı tanrısal nitelik taşıyan kahramanlar vardır.
B) Olay çevresinde oluşan türlerdir.
C) İlk şekilleri nesir hâlinindedir.
D) Epik anlatım kullanılır.

10. "Sagu"nın halk edebiyatımızdaki karşılığı aşağıdakilerden hangisidir?

- A) Koçaklama
B) Ağıt
C) Güzelleme
D) Taşlama

11. Aşağıdakilerden hangisi "sav" kelimesinin anlamlarından değildir?

- A) Mecaz B) Atasözü
C) Darb-ı mesel D) Kissa

12. Destanda Yunanlıların Troya şehrini ele geçirmek için giriştikleri savaşlar konu edilmiştir. Troya'nın yıkılışından sonra yurduna geri dönmek için yola çıkan İthake kralının serüvenlerini anlatan bu eser yazılı destan türünün en iyi örnekleri arasındadır.

Bu parçada sözü edilen destan aşağıdakilerden hangisidir?

- A) Gılgamış B) Şehname
C) Odyssea D) Ramayana

13. İlhaneliler Dönemi'nde Oğuz Kağan Destanı'nı yazıya geçiren sanatçı aşağıdakilerden hangisidir?

- A) Yunus Emre B) Mevlana
C) Dede Korkut D) Reşidüddin

14. Vezir Tonyukuk kendi anıtında yaşam öyküsünden alıntılarını yanı sıra Türklerin tarihinin bir bölümünü kişisel bir anlatımla ortaya koyduğu için bu anıt - - - türünün ilk ve en güzel örneklerinden biri sayılır.

Bu cümlede boş bırakılan yere aşağıdakilerden hangisi getirilmelidir?

- A) nutuk B) anı
C) hikâye D) masal

15. Aşağıdakilerin hangisinde bilgi yanlışlığı vardır?

- A) Göktürk alfabesinde 38 harf bulunur.
B) Göktürk yazısı sağdan sola veya yukarıdan aşağıya yazılır.
C) Türkler 5 ve 9. yüzyıllarda Göktürk ve Uygur alfabelerini kullanmışlardır.
D) Orhun Yazıtları Uygur alfabesiyle yazılmıştır.

16. Aşağıdakilerden hangisi İslamiyet sonrası Türk destanlarından değildir?

- A) Manas B) Timur
C) Oğuz Kağan D) Cengiz Han

17. Kar buz kamug erüştü
Tağlar suvı akıştı
Kökşin bulut örüştü
Kayguk bolup egrişür

Bu dizelerle ilgili aşağıdakilerden hangisi söylenemez?

- A) 4+3'lü hece ölçüsü kullanılmıştır.
B) Nazım biçimi koşuktur.
C) Nazım birimi dörtlüktür.
D) Uyak düzeni "abab" şeklindedir.

3. OTURUM

18. **Orhun Yazıtları'yla ilgili aşağıdaki bilgilerden hangisi doğrudur?**

- A) Hun İmparatorluğu'nun en parlak döneminde dikilmiştir.
- B) İlk kez W. Thomsen tarafından okunmuştur.
- C) Üç kitabe de Bilge Kağan adına dikilmiştir.
- D) Anıtlardaki yazılar dinî içeriklidir.

19. **Edebiyat tarihi kitaplarında aşağıdakilerin hangisi yer almaz?**

- A) Edebî eserlerin tam metni
- B) Edebiyat dönemlerinin belirleyici özellikleri
- C) Sanatçıların hayatları hakkında bilgi
- D) Sanatçıların edebî kişilikleri

20. **Aşağıdakilerin hangisinde bilgi yanlışlığı vardır?**

- A) İslamiyet öncesinde şairlere "şaman, baksı, kam" gibi isimler verilir.
- B) İslamiyet öncesindeki koşuk türünün halk edebiyatındaki karşılığı mânidir.
- C) Kalyanamkara ve Papamkara, Uygur Dönemi'ne ait bir eserdir.
- D) Orhun Yazıtları'nı Türkiye'de ilk kez Arap alfabesiyle Necip Asım yayımlamıştır.

(416) TÜRK EDEBİYATI – 6

1. Servetifünun sanatçılarının benimsediği edebiyat anlayışına bağlı kalmakla birlikte şiirde yapılan yeniliklerin belirli bir ölçüsü olması gerektiğini savunmuştur. Sanatçı "Şiirimiz" adıyla Servet-i Fünun dergisinde yayımladığı uzun makalesinde topluluğun sanat anlayışını ve eleştirilerini dile getirmiştir.

Bu parçada sözü edilen sanatçı aşağıdakilerden hangisidir?

- A) Ali Ekrem Bolayır
- B) Süleyman Nazif
- C) Muallim Naci
- D) Mehmet Rauf

2. **Aşağıdakilerden hangisi servetifünun edebiyatı ile fecriati edebiyatının ortak özelliklerinden değildir?**

- A) "Sanat sanat içindir." görüşüne bağlı kalınmıştır.
- B) Arapça, Farsça tamlamalarla yüklü ağır bir dil kullanılmıştır.
- C) Şiirde "Uyak, kulak içindir." anlayışına uyulmuştur.
- D) Roman türünde başarılı eserler verilmiştir.

3. **Aşağıdakilerden hangisi Servetifünun Dönemi şiirinde görülen edebî akımlardan biridir?**

- A) Realizm
- B) Sembolizm
- C) Romantizm
- D) Klasisizm

4. **Aşağıdaki sanatçılardan hangisi mensur şiir türünde eser vermiştir?**

- A) Namık Kemal
- B) İbrahim Şinasi
- C) Ahmet Haşim
- D) Mehmet Rauf

5. **Aşağıdakilerden hangisi servetifünun sanatçılarının şiire getirdiği yeniliklerdendir?**

- A) Şiirde uyak ve redif kullanmak
- B) Şiiri düzyazıya yaklaştırmak
- C) Şiirde söz sanatlarına yer vermek
- D) Aruz ölçüsünü kullanmak

6. 19. yüzyılın ikinci yarısından sonra parnasizme tepki olarak doğmuştur. Önce Fransa'da başlayan bu hareket, kısa sürede bütün Avrupa'ya yayılmıştır. Bu akıma göre gerçeği olduğu gibi anlatma olanağı yoktur. Bu nedenle dünyada gördüğümüz nesnelere bizde bıraktığı izlenimler anlatılır. Bunun için birtakım sembollerden yararlanılır.

Bu parçada sözü edilen edebî akım aşağıdakilerden hangisidir?

- A) Klasisizm
- B) Romantizm
- C) Realizm
- D) Sembolizm

7. Servetifünun Dönemi'nin önemli romancılarından biridir. Eserlerinde genellikle romantik duyguları işlemiştir. Edebiyatımızdaki ilk psikolojik romanın yazarıdır.

Bu parçada sözü edilen romancı aşağıdakilerden hangisidir?

- A) Halit Ziya Uşaklıgil
- B) Mehmet Rauf
- C) Reşat Nuri Güntekin
- D) Cenap Şahabettin

8. **Aşağıdakilerden hangisi Servetifünun Dönemi'nde kullanılmaya başlanan nazım biçimlerinden biridir?**

- A) Gazel
- B) Sone
- C) Müstezat
- D) Koşma

9. **1909 yılında bazı edebiyatçılar tarafından bildiri yayımlanarak kurulan topluluk aşağıdakilerden hangisidir?**

- A) Servetifünun
- B) Tanzimat
- C) Fecriati
- D) Millî Edebiyat

10. **Aşağıdaki sanatçılardan hangisinin roman türünde eseri yoktur?**

- A) Hüseyin Rahmi Gürpınar
- B) Ahmet Haşim
- C) Mehmet Rauf
- D) Ahmet Hikmet Müftüoğlu

11. İftardan önce gittim Atık-Valde semtine
Kaç def'a geçtiğim bu sokaklar, bugün yine
Sessizdiler, fakat Ramazan mâneviyyeti
Bir tatlı intizâra çevirmiş sükûneti;
Semtin oruçlu halkı, süzölmüş benizliler,
Sessizce çarşıdan dönüyorlar birer birer;
Bakkalda bekleyen fıkara kızcağızları
Az çok yakında sezdiliyor top ve iftarı,
Meydanda kimse kalmadı artık bütün bütün;
Bir top gürlütüsüyle bu sâhilde bitti gün.

Bu dizelerde şairin bir yeri resmetmesi, dizelerin aşağıdaki akımlardan hangisiyle yazıldığını gösterir?

- A) Sembolizm
- B) Romantizm
- C) Klasisizm
- D) Parnasizm

12. Mehmet Akif, "toplum için sanat" anlayışını benimseyen şairlerimizdendir. Aruzu halkın konuşma diline başarıyla uygulamıştır. Yazdığı manzum hikâyelerde insanların yaşamını gerçekçi bir şekilde aktarmıştır.

Bu parçaya göre aşağıdaki hangi dizeler Mehmet Akif'e aittir?

- A) Hastalandım, bakacak kimseciğim yok; Osman
Gece gündüz koşuyor iş diye, bilmem ne zaman
Eli ekmek tutacak? İşte saat belki de üç
Görüyorsun daha gelmez...
Yalnızlık pek güç.
- B) Derinden derine ırmaklar ağılar,
Uzaktan uzağa çoban çeşmesi
Ey suyun sesinden anlayan bağlar,
Ne söyler şu dağa çoban çeşmesi?
- C) Güzel dil Türkçe bize,
Başka dil gece bize,
İstanbul konuşması
En saf, en ince bize.
- D) Tahtadan yapılmış bir uzun kutu,
Baş tarafı geniş, ayakucu dar.
Çakanlar bilir ki, bu boş tabutu,
Yarın kendileri dolduracaktır.

3. OTURUM

13. Aşağıdaki eserlerin hangisinde kuşaklar arası çatışma işlenmiştir?

- A) Devlet Ana B) Kiralık Konak
C) Ankara D) Aşk-ı Memnu

14. Aşağıdaki sanatçı - eser eşleştirmelerinden hangisi yanlıştır?

- A) Reşat Nuri Güntekin – Çalıkuşu
B) Yakup Kadri Karaosmanoğlu – Yaban
C) Halide Edip Adıvar – Mai ve Siyah
D) Ömer Seyfettin – Kaşığı

15. Aşağıdakilerden hangisi Halide Edip Adıvar'ın hikâye türündeki eserlerindedir?

- A) Ateşten Gömlek
B) Vurun Kahpeye
C) Sinekli Bakkal
D) Dağa Çıkan Kurt

16. Aşağıdaki eserlerden hangisi manzum hikâyedir?

- A) Eylül B) Küfe
C) Cezmi D) İntibah

17. Fecriati topluluğunun bazı isimleri Selanik'te yayımlanmakta olan - - - dergisinde dil ve edebiyat hakkında ileri sürülen görüşleri benimseyerek topluluktan ayrıldılar. Böylece sanat ve edebiyat sevgisiyle kurulmuş olan topluluk, fazla bir varlık göstermeden dağıldı.

Bu parçada boş bırakılan yere aşağıdakilerden hangisi getirilmelidir?

- A) Tasvir-i Efkâr
B) Servetifünun
C) Genç Kalemler
D) Varlık

18. Aşağıdaki sanatçılardan hangisi Millî Edebiyat Dönemi romancılarından değildir?

- A) Halide Edip Adıvar
B) Reşat Nuri Güntekin
C) Yakup Kadri Karaosmanoğlu
D) Namık Kemal

19. Uydurma söz yapmayız,
Yapma yola sapmayız,
Türkçeleşmiş Türkçedir;
Eski köke tapmayız.

Bu dizelerin şekil ve içerik bakımından değerlendirildiğinde aşağıdaki edebiyat dönemlerinin hangisinde yazıldığı söylenir?

- A) Millî Edebiyat
B) Tanzimat
C) Servetifünun
D) Fecriati

20. Aşağıdakilerden hangisi öz şiir anlayışının özelliklerinden değildir?

- A) Şiirde anlamdan çok söyleyişe önem verilmiştir.
B) Sosyal temalardan çok bireysel duyarlılık tercih edilmiştir.
C) Şiirde anlamın kapalı olması gerektiği savunulmuştur.
D) Sanatsız ve kuru bir anlatım kullanılmıştır.

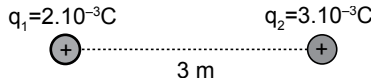
(426) FİZİK – 6

1. Elektrikle yüklü cisimlerin arasındaki elektriksel kuvvet

- I. Yük miktarına (q)
II. Yükler arası uzaklığa (d)
III. Coulomb sabitine (k)
niceliklerinden hangilerine bağlıdır?

- A) Yalnız I B) II ve III.
C) I ve III. D) I, II ve III.

2. Aralarında 3 m uzaklık bulunan $q_1 = 2 \cdot 10^{-3} \text{ C}$ ve $q_2 = 3 \cdot 10^{-3} \text{ C}$ olan yüklü küreler şekildeki gibidir.



Buna göre yükler arasındaki itme kuvveti kaç Newton'dur?

$$(k = 9 \cdot 10^9 \frac{\text{Nm}^2}{\text{C}^2})$$

- A) $2 \cdot 10^3$ B) $3 \cdot 10^3$
C) $6 \cdot 10^3$ D) $9 \cdot 10^3$

3. Elektrik alan pozitif birim yüke etki eden elektriksel kuvvet olarak tanımlanır.

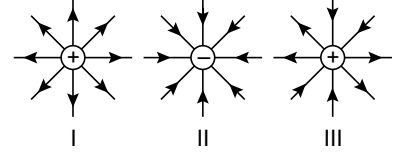
Buna göre

- I. Elektrik alan $\vec{E} = \frac{\vec{F}}{q}$ bağıntısı ile hesaplanır.
II. Elektrik alan skaler bir büyüklüktür.
III. Elektrik alan birimi $\frac{\text{Coulomb}}{\text{Newton}}$ (C/N)'dir.

İfadelerinden hangileri doğrudur?

- A) Yalnız I B) II ve III.
C) I ve II. D) I, II ve III.

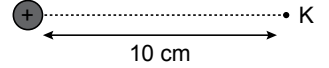
4. Elektrik alan çizgileri ile ilgili;



Verilen I, II ve III şekillerinden hangileri doğrudur?

- A) Yalnız I B) I ve II.
C) II ve III. D) I, II ve III.

5. $q = 5 \cdot 10^{-9} \text{ C}$



Yükü $5 \cdot 10^{-9} \text{ C}$ olan şekildeki kürenin 10 cm uzaklığındaki K noktasında oluşan elektriksel alan şiddeti kaç N/C'dur? ($k = 9 \cdot 10^9 \frac{\text{Nm}^2}{\text{C}^2}$)

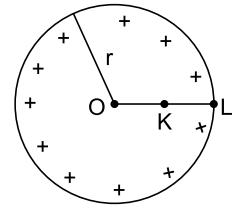
- A) 4,5 B) 45 C) 450 D) 4500

6. Yüklü iletken bir kürenin oluşturduğu elektrik alanı ile ilgili;

- I. Kürenin içinde sıfırdır.
II. Küre yüzeyinde maksimumdur.
III. Küreden uzaklaştıkça artar
İfadelerinden hangileri doğrudur?

- A) I ve II. B) II ve III.
C) I ve III. D) I, II ve III.

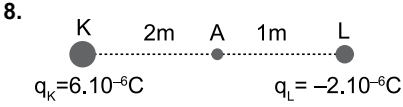
7. Pozitif elektrik yüklü r yarıçaplı iletken küre şekildeki gibidir.



Kürenin O, K ve L noktalarındaki elektriksel potansiyel V_O, V_K, V_L arasındaki ilişki aşağıdakilerden hangisinde doğru verilmiştir?

- A) $V_L > V_K > V_O$
B) $V_O = V_K = V_L$
C) $V_O > V_K > V_L$
D) $V_K = V_L > V_O$

3. OTURUM

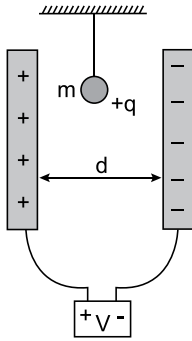


Şekildeki K ve L noktasal yüklerinin A noktasında oluşturduğu toplam potansiyel kaç voltur?

$$(k = 9.10^9 \frac{Nm^2}{C^2})$$

- A) 1000 B) 4000
C) 6000 D) 9000

9. Elektrik yükü +q olan m kütleli cisim havasız bir ortamda şekildeki gibi d uzaklığında uçlarına pil bağlı levhalar arasına konuluyor.



Buna göre yüke;

- I. Yerçekimi
II. Elektriksel
III. Kaldırma

kuvvetlerinden hangileri etki eder?

- A) Yalnız I B) Yalnız III
C) I ve II D) I, II ve III

10. Elektrik yükü depolamaya yarayan sistemlere ne denir?

- A) Termometre B) Kondansatör
C) Voltmetre D) Ampermetre

11. Her bir armatürde $12.10^{-6} C$ 'luk yük bulunan $4.10^{-6} F$ sığalı bir kondansatörün armatürleri arasındaki potansiyel fark kaç Volt'tur?

- A) 3 B) 6 C) 12 D) 16

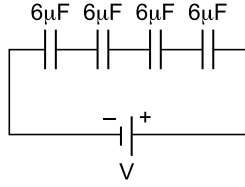
12. Sığaçlar kullanıldıkları yere ve ihtiyaç duyulan kapasiteye göre;

- I. Paralel plakalı
II. Silindirik
III. Küresel

şekillerinden hangileri gibi üretilmektedir?

- A) I ve II. B) II ve III.
C) I ve III. D) I, II ve III.

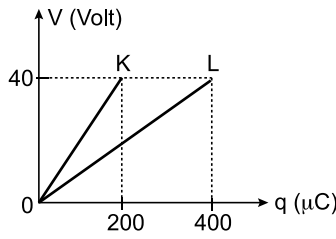
13. Sığaları $6\mu F$ olan şekildeki sığaçlar seri olarak bağlanmıştır.



Buna göre eşdeğer sığa kaç μF 'dır?

- A) $\frac{1}{2}$ B) $\frac{2}{3}$ C) $\frac{3}{2}$ D) $\frac{7}{4}$

14. K ve L kondansatörlerinin yük-potansiyel farkı grafiği şekildeki gibidir.



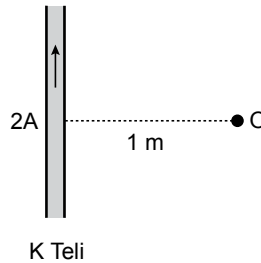
Bu kondansatörler paralel bağlanarak uçlarına 20 Volt potansiyel fark uygulanırsa sistemde depolanan yük kaç μC olur?

- A) 50 B) 200 C) 250 D) 300

15. Aşağıdakilerden hangisinde kondansatör kullanılmaz?

- A) Bilgisayar
B) Dinamometre
C) Mikrodalga fırın
D) Cep telefonu

16. Sonsuz uzunluktaki K telinden şekildeki gibi 2A'lık akım geçmektedir.



Buna göre K telinin 1 m uzaklığındaki O noktasında oluşan manyetik alan şiddeti kaç Tesla'dır?

$$(K = 10^{-7} N/A^2)$$

- A) 2.10^{-7} B) 3.10^{-7}
C) 4.10^{-7} D) 8.10^{-7}

17. Akım makarasının (Bobin) oluşturduğu manyetik alan için;

- I. Sarım sayısı ile doğru orantılıdır.
II. Tellerin üzerinden geçen akım ile doğru orantılıdır.
III. Sarımların uzunluğu ile doğru orantılıdır.

yargılarından hangileri doğrudur?

- A) I ve II. B) II ve III.
C) I ve III. D) I, II ve III.

18. Üzerinden akım geçen bir tele manyetik alanda etki eden kuvvet;

- I. Telin uzunluğuna (L)
II. Telden geçen akıma (I)
III. Manyetik alana (B)

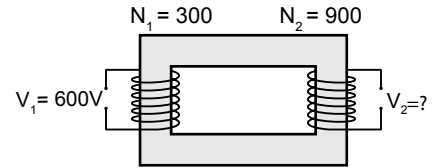
niceliklerinden hangilerine bağlıdır?

- A) Yalnız I B) Yalnız II
C) II ve III. D) I, II ve III.

19. Aşağıdakilerden hangisi alternatif akım kaynağına örnek verilebilir?

- A) Hidroelektrik santraller
B) Pil
C) Akü
D) Bilgisayar

20. Sarım sayıları 300 ve 900 olan şekildeki transformatörde birincil sarımlara 600 V potansiyel fark uygulanıyor.



Buna göre ikincil sarımlardan elde edilen potansiyel fark V_2 kaç Volt'tur?

- A) 900 B) 1200
C) 1800 D) 2400

3. OTURUM

(427) FİZİK – 7

1. Bir cismin sabit süratle çembersel yörüngedeki dönme hareketine düzgün çembersel hareket denir.

Buna göre;

- I. Lunaparktaki dönme dolabın hareketi
- II. Evlerdeki vantilatörün çalışırken hareketi
- III. Kol saatindeki akrep ve yelkovan hareketi

Yukarıdaki hareketlerden hangileri düzgün çembersel harekete örnek olarak verilir?

- A) Yalnız I B) Yalnız II
C) I ve III. D) I, II ve III.

2. Yatay düzlemde yarı çapı 2 m olan çembersel yörüngede sabit süratle dönen çarkın tam bir turu için geçen süre 5 saniyedir.

Buna göre çarkın açısal hızı kaç rad/s dir? ($\pi = 3$ alınacak)

- A) $\frac{6}{5}$ B) $\frac{1}{5}$ C) $\frac{1}{6}$ D) 6

3. Düzgün çembersel hareket eden bir cisim için;

- I. Tam tur attığında geçen süreye periyot denir.
- II. Bir saniyedeki tur sayısına frekans denir.
- III. Yarıçap vektörünün birim zamanda daire üzerinde taradığı açıya açısal hız denir.

verilen tanımlardan hangileri doğrudur?

- A) Yalnız I B) Yalnız II
C) II ve III. D) I, II ve III.

4. Bir çamaşır makinesinin kazanı dakikada 1200 devir yapmaktadır. Kazanın yarıçapı 40 cm'dir.

Buna göre kazanın;

- I. Frekansı 20 s^{-1} dir.
- II. Periyodu 20 s dir.
- III. Çizgisel hızı 48 m/s dir.

verilen fiziksel büyüklüklerden hangileri doğrudur?

($\pi = 3$ alınacak)

- A) Yalnız I B) Yalnız II
C) I ve III. D) I, II ve III.

5. Sürtünmesiz yatay düzlemde uzunluğu 1 m olan bir ipin ucuna 2 kg'lık bir cisim bağlanarak 5 m/s çizgisel hızla döndürülüyor.

Cismin bağlı olduğu ipteki gerilme kuvveti kaç Newton'dur?

- A) 50 B) 5 C) 2 D) 1

6. Yatay virajı dönen yarış aracına etki eden merkezci kuvvet (F_m) ve araç ile yol arasındaki sürtünme kuvveti (F_s) olduğuna göre;

- I. $F_m > F_s$
- II. $F_s > F_m$
- III. $F_s = F_m$

verilen durumlardan hangilerinde araç virajı güvenle alabilir?

- A) Yalnız I B) I ve II.
C) II ve III. D) I, II ve III.

7. Dönerek ilerleyen cisimler hem dönme hem de öteleme hareketine sahiptir.

Buna göre;

- I. Doğrusal yolda hareket eden bisiklet tekerleklerinin hareketi
- II. Rüzgâr türbününün pervanesinin hareketi
- III. Kan tahlilinde kullanılan santrifüj makinesinin hareketi

verilen örneklerden hangilerinde hem dönme hem de öteleme hareketi vardır?

- A) Yalnız I B) Yalnız II
C) II ve III. D) I, II ve III.

8. Ay ile Dünya arasındaki kütle çekim kuvveti (F_c) için;

- I. Ay ile dünya arasındaki uzaklığa bağlıdır.
- II. Kütle çekim sabitine (G) bağlıdır.
- III. Ay ile Dünyanın kütlelerine bağlıdır.

yargılarından hangileri doğrudur?

- A) Yalnız I B) Yalnız III
C) I ve III. D) I, II ve III.

9. Basit harmonik hareket yapan bir cismin uzanım denklemi $X_{(m)} = 5 \cos 3t$ bağıntısı ile veriliyor.

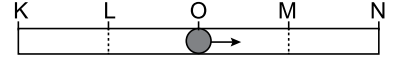
Buna göre;

- I. Periyodu 2 s dir.
- II. Genliği 5 m dir.
- III. Frekansı 5 s^{-1} dir.

hareket için verilen fiziksel büyüklüklerden hangileri doğrudur? ($\pi = 3$ alınacak)

- A) Yalnız I B) I ve II.
C) II ve III. D) I, II ve III.

10. Şekildeki gibi cisim eşit bölmelendirilmiş KN arasında basit harmonik hareket yapıyor. Cisim O (denge konumu) noktasından ok yönünde harekete başlıyor.



Cismin periyodu 12 s olduğuna göre cisim 13. saniyede hangi noktada bulunur?

- A) K B) L C) M D) N

11. İki nokta arasındaki gidip gelme ve periyodik harekete basit harmonik hareket denir.

Buna göre;

- I. Müzisyenin çaldığı gitar telinin hareketi
- II. Salıncakta sallanan çocuk
- III. Doğrusal yolda hareket eden YHT treni

verilen örneklerden hangileri basit harmonik harekete örnek olabilir?

- A) Yalnız I B) I ve II.
C) II ve III. D) I, II ve III.

12. Basit harmonik hareket eden bir cisim ile ilgili;

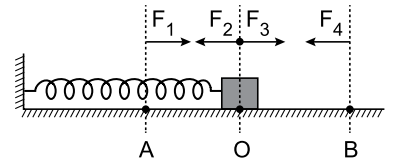
- I. Cismin denge noktasından uzaklaştığı en büyük mesafeye frekans denir.
- II. Cismin herhangi bir andaki denge noktasına uzaklığına genlik denir.
- III. Cismin tam bir titreşimi için geçen süreye periyot denir.
- IV. Cismin birim zamandaki titreşim sayısına uzanım denir.

tanımlarından hangisi doğrudur?

- A) I. B) II. C) III. D) IV.

13. Sürtünmesiz sistemde şekildeki gibi denge konumu O noktası olan m kütleli bir cisim A ve B noktaları arasında basit harmonik hareket ediyor.

Buna göre;



m kütleli cisim A, O ve B noktalarından geçerken gösterilen F_1, F_2, F_3 ve F_4 kuvvetlerden hangileri geri çağırıcı kuvvet olabilir?

- A) F_1 ve F_4
B) F_2 ve F_3
C) F_1, F_2 ve F_3
D) F_1, F_2, F_3 ve F_4

3. OTURUM

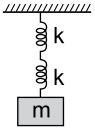
14. Kütlesi 2 kg olan basit harmonik hareket yapan cismin genliği 0,5 m'dir.
Cismin periyodu 6 s olduğuna göre maksimum hızı kaç m/s dir?
($\pi = 3$ alınacak)

A) 6 B) 2 C) 0,5 D) 0,1

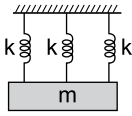
15. Kütlesi 2 kg olan basit harmonik hareket yapan cismin maksimum uzanımı 4 m ve maksimum hızı 2 m/s olduğuna göre geri çağırıcı kuvvet kaç Newton'dur?

A) 1 B) 2 C) 3 D) 4

16. Şekil I deki gibi özdeş yaylarla seri bağlanan sistemin eş değer yay sabiti k_1 ve Şekil II deki gibi özdeş yaylarla paralel bağlanan sistemin eşdeğer yay sabiti k_2 dir.



Şekil I

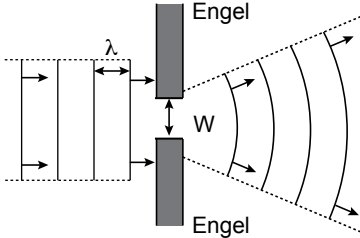


Şekil II

Buna göre k_1 / k_2 oranı nedir?

A) $\frac{1}{2}$ B) $\frac{1}{3}$ C) $\frac{3}{2}$ D) $\frac{1}{6}$

17. Derinliği her yerde aynı olan bir dalga leğeninde λ dalga boyu doğrusal dalgalar şekildeki gibi bir yarıktan geçerken çemberleşir.



Buna göre doğrusal su dalgalarının dalga boyu mertebesindeki bir yarıktan geçerken çemberleşmesi ne ne dir?

A) Kırınım B) Periyot
C) Frekans D) Yansıma

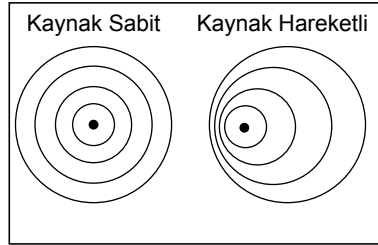
18. Işığın yayılma hareketi dalga modeli ve tanecik modeli ile açıklanır. Fiziksel olaylarda ışığın davranışı aşağıdaki tabloda verilmiştir.

	Fiziksel Olay	Işığın Davranışı
I.	Fotoelektrik etki	Tanecik
II.	Yansıma	Dalga ve tanecik
III.	Kırılma	Dalga ve tanecik

Buna göre tablodakilerden hangileri doğrudur?

A) Yalnız I B) Yalnız II
C) I ve II. D) I, II ve III.

19. Derinliği her yerde aynı olan dalga leğeninde sabit kaynağın oluşturduğu dairesel dalgalar ile hareketli kaynağın oluşturduğu dairesel dalgalar şekilde gösteriliyor.



Buna göre dalga kaynağının hareketi ile ortaya çıkan dalga frekansındaki değişmeye ne ne dir?

A) Fotoelektrik Olay
B) Doppler Olayı
C) Füzyon Olayı
D) Fisyon Olayı

20. Maxwell elektromanyetik dalgaların boşlukta yayıldığını açıkladı.

Buna göre elektromanyetik dalgalar boşlukta hangi hızla yayılır?

A) Işık hızı B) Ses hızı
C) Araba hızı D) Uçak hızı

(428) FİZİK – 8

1. Atom teorileri ile ilgili bazı modeller aşağıda verilmiştir:

- Atomun merkezinde pozitif yükün toplandığı ve atomun kütlesinin çoğunu oluşturan bir çekirdek vardır. Bu pozitif yüklere proton adı verilmiştir.
- Çekirdeğin etrafında dolanan elektronlar vardır. Elektronlar geniş boşluklar bırakacak şekilde dağılmış haldedir. Atomun büyük kısmı boşluktur.

Verilen bu atom modelleri hangi bilim insanına aittir?

A) Rutherford B) Dalton
C) Thomson D) Bohr

2. Bilim tarihi içinde atom kavramının gelişiminde katkıda bulunan Dalton Atom Modeli'ne göre;

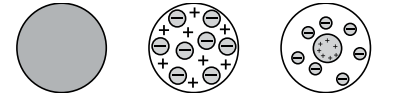
- Elementler atom adı verilen küçük bölünmeyen taneciklerden oluşmuştur.
- Bir elementin tüm atomlarının kütlesi ve diğer özellikleri aynıdır. Fakat diğer elementlerin atomlarından farklıdır.
- Kimyasal bir birleşik iki ya da daha fazla elementin basit bir oranda birleşmesi ile oluşur.

Dalton'un ortaya koyduğu varsayımlardan hangileri doğru verilmiştir?

A) Yalnız I B) Yalnız II
C) I ve II. D) I, II ve III.

3. Bilim tarihi içinde atom kavramının gelişimini sağlamak için bilim insanları yüzyıllardır çeşitli varsayımlar ve şekiller ortaya atmıştır.

Buna göre;



Dalton Atom Modeli I
Thomson Atom Modeli II
Bohr Atom Modeli III

Verilen atom modelleri I, II ve III şekillerinin hangilerinde doğru olarak verilmiştir?

A) Yalnız I B) I ve II.
C) II ve III. D) I, II ve III.

3. OTURUM

4. Bohr Atom modeline göre hidrojen atomun 2. yörüngedeki elektronun yarıçapı r_1 , helyum atomunun 3. yörüngedeki yarıçapı r_2 olduğuna göre $\frac{r_1}{r_2}$ oranı kaçtır?

$$(Z_H = 1; Z_{He} = 2; r_n = 0,53 \frac{n^2}{Z})$$

- A) 1 B) $\frac{2}{3}$ C) $\frac{8}{9}$ D) $\frac{4}{9}$

5. Bohr atom modeline göre;

- I. Bohr atom modeli yalnızca tek elektronlu atomlar için geçerlidir.
II. Elektronlar çekirdekten uzaklaştıkça açısal momentumları değişmez.
III. Elektronlar kararlı yörüngede dolanırken ışımaya yapar.

verilen ifadelerden hangileri doğrudur?

- A) Yalnız I B) Yalnız II
C) II ve III. D) I, II ve III.

6. Bilim insanları tarih boyunca maddenin ve atomun yapısını açıklamak için atom teorilerini oluşturmuştur.

Buna göre;

- I. Thomson atom modeli
II. Bohr atom modeli
III. Dalton atom modeli
IV. Rutherford atom modeli

ortaya atılan modellerin tarihsel sıralaması aşağıdakilerin hangisinde doğru verilmiştir?

- A) I - II - III - IV B) III - I - II - IV
C) III - I - IV - II D) II - I - III - IV

7. Uyarılan atomların elektronları, üst enerji seviyelerinden düşerken düşme ihtimalinin olduğu enerji seviyelerine göre özel adlandırılır.

Buna göre aşağıdakilerden hangisi doğru verilmiştir?

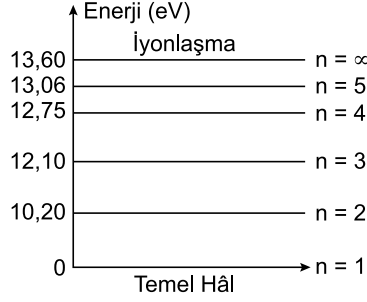
- A) $n = 1$ için Lyman serisi
B) $n = 2$ için Paschen serisi
C) $n = 3$ için Balmer serisi
D) $n = 4$ için Bohr serisi

8. Bohr atom modeline göre, temel halde bulunan hidrojen atomunun uyarılma sonucu açısal momentumu $\frac{3}{2} \frac{h}{\pi}$ kadar artmıştır.

Bu uyarılmış hidrojen atomu kaç değişik dalga boyu ışımaya yapabilir?

- A) 1 B) 4 C) 6 D) 9

9. Hidrojen atomunun enerji düzeyleri şekildedeki gibidir.



Buna göre, temel hâl enerji durumundaki hidrojen atomları;

- I. 12,85 eV enerjili elektronlarla
II. 12,75 eV enerjili fotonlarla
III. 13,20 eV enerjili fotonlarla

bombardıman edilirse, hangileri temel hâl enerji durumundaki atomları uyarabilir?

- A) Yalnız I B) I ve II.
C) I ve III. D) I, II ve III.

10. Çekirdeklerin bölünerek yada kaynaşarak daha kararlı hale gelmesi, nükleer enerjiyi meydana getirir. Nötron bombardımanı ile kararsız hâle gelen büyük kütleli atom çekirdekleri parçalanarak daha küçük kütleli atom çekirdeklerine dönüşür.

Buna göre;

- I. Bu olaya fisyon denir.
II. Atom bombası örnek olarak verilebilir.
III. Bunun sonucunda büyük miktarda enerji açığa çıkar

verilen ifadelerden hangileri doğrudur?

- A) Yalnız I B) Yalnız II
C) I ve II. D) I, II ve III.

11. Bir protona eşlik eden dalğanın dalga boyu $1,1 \cdot 10^{-14}$ m'dir.

Buna göre, protonun momentumu kaç $\text{kg} \cdot \text{m/s}$ dir? ($h = 6,6 \cdot 10^{-34}$ J.s)

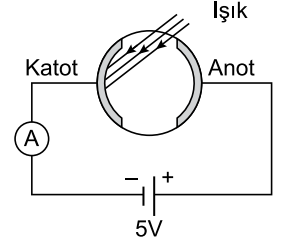
- A) $6 \cdot 10^{-20}$ B) $5 \cdot 10^{-20}$
C) $4 \cdot 10^{-20}$ D) $1 \cdot 10^{-20}$

12. Fotoelektrik olayında, ışınların düştüğü metalin bağlanma enerjisi 2 eV, sökülen elektronların kinetik enerjisi 4 eV dur.

Buna göre, kullanılan ışığın enerjisi kaç eV tur?

- A) 12 B) 6 C) 4 D) 2

13. Şekildeki devrede fotoselin katodunda kullanılan alkali metalin eşik dalga boyu 3100 \AA dür.

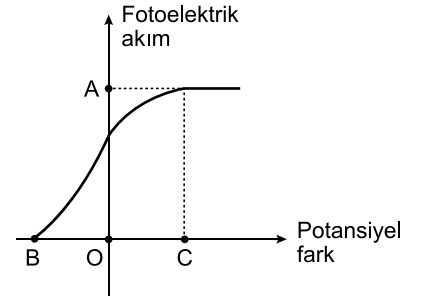


Fotoselin kotodunun yüzeyine gönderilen fotonların enerjileri 8eV olduğuna göre, sökülen fotonların maksimum kinetik enerjisi kaç eV tur? ($hc = 12400 \text{ eV} \cdot \text{\AA}$)

- A) 3 B) 9 C) 13 D) 17

14. Bir fotoelektrik devresinde foto elektrik akım-potansiyel fark grafiği şekildedeki gibidir.

Buna göre;



- I. A noktasına maksimum akım denir. (I_{max})
II. B noktasına durdurma gerilimi (kesme potansiyeli) denir. (V_K)
III. C noktasına doyma potansiyeli denir. (V_D)

grafikteki noktalara verilen ifadelerden hangileri doğrudur?

- A) Yalnız I B) Yalnız II
C) II ve III. D) I, II ve III.

15. De Broglie'ye göre kütlesi m hızı V olan bir parçacığa eşlik eden dalga boyuna göre;

- I. Plank sabiti h ile ters orantılıdır.
II. Cismin kütlesi m ile ters orantılıdır.
III. Cismin hızı V ile ters orantılıdır.

verilen ifadelerden hangileri doğrudur?

- A) Yalnız I B) I ve II.
C) II ve III. D) I, II ve III.

3. OTURUM

16. Einstein'in özel görelilik (izafiyet) teorisine göre ışık hızına yakın hareket eden gözlemciye göre;
- Gözlemcinin ölçtüğü zaman aralığı durgun gözlemciye göre daha uzundur.
 - Gözlemci ışık hızına yaklaştıkça hareket doğrultusundaki uzunlukları durgun uzunluğa göre daha kısa ölçer.
 - Gözlemcinin veya ışık kaynağının hızından bağımsız olarak bütün eylemsiz referans sistemlerinde ışığın boşluktaki yayılma hızı ($c = 3 \times 10^8$ m/s) sabittir.

verilen ifadelerden hangileri doğrudur?

- A) Yalnız I B) Yalnız II
C) I ve III. D) I, II ve III.

17. Yarı iletkenlerle ilgili bazı özellikler aşağıda verilmiştir;

- N tipi yarı iletkenlerde akım taşıyıcıları çoğunlukla elektronlardır.
- P tipi yarı iletkenlerde akım taşıyıcıları çoğunlukla boşluklardır.
- Elektronik endüstrisinde P ve N tipi yarı iletkenler kullanılmaz.

verilen özelliklerden hangileri P ve N yarı iletkenleri için doğrudur?

- A) Yalnız I B) I ve II.
C) II ve III. D) I, II ve III.

18. X-ışınları, doğal ve yapay X-ışınları olmak üzere iki şekilde meydana gelir.

Buna göre;

- Maddenin elektron ve proton gibi hızlandırılmış parçacıklarla etkileşmesinden meydana gelir.
- Alfa bozunumu olayları ile meydana gelir.
- Beta bozunumu olayları ile meydana gelir.

X-ışınların meydana gelişi ile ilgili verilenlerden hangileri doğal oluşuma örnek verilir?

- A) Yalnız I B) I ve II.
C) II ve III. D) I, II ve III.

19. Nano malzemeler, nanoteknolojide kullanılan malzemelere verilen genel bir isimdir. Nano malzeme türleri ve örnekleri verilmiştir.

	Materyaller	Örnekler
I.	Nano kristaller	Metaller, yarı iletkenler, manyetik materyaller
II.	Nano partiküller	Metaller, seramik oksitler
III.	İnce filmler	Yarı iletkenler

Buna göre materyal ile örneklerinden hangileri doğru verilmiştir?

- A) Yalnız I B) I ve III.
C) I ve II. D) I, II ve III.

20. Günümüzde, dalga boyları, güçleri, ışın kalitesi, verimlilikleri, çalışma şekilleri ve darbe uzunlukları açısından birbirinden farklı binlerce lazer türü vardır.

Buna göre

- Katı-hâl Lazerleri-Fiber Lazerler
- Sıvı Lazerleri-Boya Lazerler
- Gaz lazerleri-Helyum-neon lazeri

genel olarak sınıflandırılan ve örnek verilen lazer çeşitlerinden hangileri doğru verilmiştir?

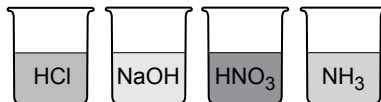
- A) Yalnız I B) I ve II.
C) II ve III. D) I, II ve III.

(433) KİMYA – 3

1. Aşağıda verilenlerden hangisi asitler ve bazlar için ortak bir özelliktir?

- A) Sulu çözeltileri elektrik akımını iletir.
B) Kırmızı turnusol kağıdının rengini maviye çevirirler.
C) 25°C'ta sulu çözeltilerinin pH değeri 7'den büyüktür.
D) Aktif metallerle tepkimeye girdiklerinde hidrojen gazı açığa çıkar.

2. Bazı maddelerin oda koşullarında hazırlanan sulu çözeltileri aşağıda verilmiştir.



Buna göre bu çözeltilerden kaç tanesi asidik özellik gösterir?

- A) 1 B) 2 C) 3 D) 4

3. Aşağıda bazı bazların aynı şartlar altındaki suda iyonlaşma denklemleri verilmiştir.

Buna göre hangisi zayıf bazdır?

- A) $\text{NaOH}_{(k)} + \text{H}_2\text{O}_{(s)} \rightarrow \text{Na}^+_{(suda)} + \text{OH}^-_{(suda)}$
B) $\text{KOH}_{(k)} + \text{H}_2\text{O}_{(s)} \rightarrow \text{K}^+_{(suda)} + \text{OH}^-_{(suda)}$
C) $\text{Ca}(\text{OH})_{2(k)} + \text{H}_2\text{O}_{(s)} \rightarrow \text{Ca}^{2+}_{(suda)} + 2\text{OH}^-_{(suda)}$
D) $\text{NH}_3(g) + \text{H}_2\text{O}_{(s)} \rightleftharpoons \text{NH}_4^+_{(suda)} + \text{OH}^-_{(suda)}$

4. Aşağıda verilen maddelerden hangisinin oda koşullarında hazırlanan sulu çözeltisinin pH değeri 7'den küçüktür?

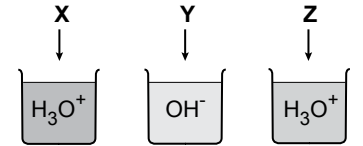
- A) KOH B) NaOH
C) NaCl D) H₂SO₄

5. I. pH=3
II. pH=5
III. pH=11

Oda koşullarında (25°C) hazırlanan yukarıda pH değeri verilen çözeltilerden hangileri, mavi turnusol kağıdının rengini kırmızıya çevirir?

- A) Yalnız I B) Yalnız III
C) I ve II. D) II ve III.

6. İçerisinde saf su bulunan kaplara X, Y ve Z maddeleri eklenip çözüldüğünde bu maddelerin suda oluşturdukları iyonlar aşağıda verilmiştir.



Buna göre X, Y ve Z maddelerinden hangileri bazik özellik gösterir?

- A) Yalnız X B) Yalnız Y
C) X ve Z D) Y ve Z

7. Otomobil akülerinin içine konulan ve "akü asidi" olarak da bilinen maddede aşağıdakilerden hangisidir?

- A) Nitrik asit B) Sülfürik asit
C) Asetik asit D) Fosforik asit

8. Aşağıdaki maddelerden hangisi NaOH ile etkileştiğinde H₂ gazı açığa çıkar?

- A) Zn B) K C) Mg D) Fe

3. OTURUM

(434) KİMYA – 4

9. Aşağıda verilen gazlardan hangisi asit yağmurlarına sebep olmaz?

- A) SO₂ B) SO₃
C) O₂ D) NO₂

10. Aşağıda bazı maddelerin formülleri ile halk arasında bilinen yaygın adları eşleştirilmiştir.

Buna göre hangi maddenin yaygın adı yanlış yazılmıştır?

Maddenin Formülü	Yaygın Adı
A) NaCl	Sofra tuzu
B) KOH	Potas kostik
C) HNO ₃	Sirke asidi
D) H ₂ SO ₄	Zaç yağı

11. Aşağıdakilerden hangisi heterojen bir karışımdır?

- A) Sis B) Gazoz
C) Saf su D) Hava

12. I. Homojen karışımlardır.
II. İki veya daha çok maddeden oluşurlar.
III. Belirli kaynama noktaları yoktur.
Yukarıda çözeltilere ait verilen özelliklerden hangileri doğrudur?

- A) Yalnız I B) I ve II.
C) II ve III. D) I, II ve III.

13. Aşağıda verilen maddelerden hangisi karışım değildir?

- A) Kan B) Potasyum
C) Tuzlu su D) Çorba

14.

	Madde	Polar/Apolar
I.	Su	Polar
II.	Sıvıyağ	Apolar
III.	Etanol	Polar

Tabloda verilen maddelerden hangilerinin apolar özellik gösteren karbon tetraklorür içinde çözünmesi beklenir?

- A) Yalnız I B) Yalnız II
C) I ve II. D) II ve III.

15. Kütlece %10 yemek tuzu (NaCl) içeren 200 gram sulu çözeltide kaç gram su bulunur?

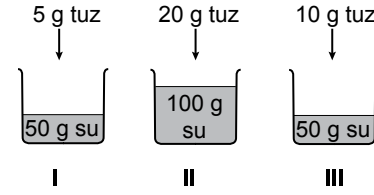
- A) 20 B) 80 C) 90 D) 180

16. 30 mL sirke ile 120 mL su karıştırılarak bir çözelti hazırlanıyor.

Bu çözeltideki sirkenin hacimce yüzdesi kaçtır?

- A) 10 B) 15 C) 20 D) 30

17. Aynı şartlar altında bulunan su içerisine şekillerde belirtilen miktarlarda tuz eklenerek tamamen çözünüyor.



Oluşan çözeltilerden hangilerinin kaynama sıcaklığı birbirine eşittir?

- A) I ve II. B) I ve III.
C) II ve III. D) I, II ve III.

18. Bir sıvının başka bir sıvı içinde çözünmeden dağılmasıyla oluşan heterojen karışımlara - - - - denir.

Verilen tanımda boş bırakılan yere (- - - -) aşağıdakilerden hangisi yazılmalıdır?

- A) emülsiyon B) süspansiyon
C) koloit D) çözelti

19. • Süzme
• Aktarma
• Diyaliz
• Ayrımsal damıtma

Yukarıda verilenlerden kaç tanesi tanecik boyutu farkından yararlanılarak yapılan karışımları ayırma yöntemidir?

- A) 1 B) 2 C) 3 D) 4

20. Çamurlu su, aşağıdaki karışım türlerinden hangisine örnek olarak verilebilir?

- A) Süspansiyon B) Aerosol
C) Çözelti D) Alaşım

1. Aşağıda verilen enerji kaynaklarından hangisi fosil yakıttır?

- A) Doğal gaz B) Jeotermal
C) Güneş D) Biyogaz

2. Kömürleşme süreci en uzun ve bileşiminde bulunan karbon (C) yüzdesi en yüksek olan kömür türü aşağıdakilerden hangisidir?

- A) Taş kömürü B) Antrasit
C) Linyit D) Turba

3. • Sıvıdır.
• Yanıcıdır.
• Organik maddedir.
• Yenilenebilir enerji kaynağıdır.

Yukarıda verilenlerden kaç tanesi petrole ait özelliklerdendir?

- A) 1 B) 2 C) 3 D) 4

4. Benzen halkasındaki bir hidrojen (H) atomunun yerine amin grubu (-NH₂) geçtiğinde oluşan bileşik, aşağıdakilerden hangisidir?

- A) Toluen B) Piridin
C) Naftalin D) Anilin

5. I. Rüzgâr
II. Hidroelektrik
III. Doğal gaz

Yukarıdakilerden hangileri temiz enerji kaynağıdır?

- A) Yalnız I B) Yalnız II
C) I ve II. D) II ve III.

6. Fotovoltaik piller (hücreler), güneş enerjisini hangi enerji türüne dönüştürürler?

- A) Elektrik B) Kimyasal
C) Işık D) Isı

7. • Maltoz

- Glikoz
• Fruktoz
• Sakkaroz

Yukarıda verilenlerden kaç tanesi disakkarittir?

- A) 1 B) 2 C) 3 D) 4

3. OTURUM

8. Aşağıda verilenlerden hangisi insan vücudunda enerji kaynağı olarak kullanılmaz?

- A) Karbonhidrat B) Protein
C) Yağ D) Su

9. Besin maddeleri ile ilgili aşağıda verilen bilgilerden hangisi yanlıştır?

- A) Karbonhidratların yapı birimi olan glikoz ihtiyaçtan fazla alındığında karaciğerde glikojen olarak depolanır.
B) Yağlar, vücutta yeterli glikoz (şeker) bulunmadığında enerji elde etmek için kullanılır.
C) Proteinler, 1 gramı yandığında en fazla enerji veren besin grubudur.
D) Proteinler, aminoasit polimeridir.

10. Yeşil bitkilerin fotosentez olayı ile havadan aldıkları karbondioksit ve topraktan aldıkları suyu birleştirerek ürettikleri besin grubu aşağıdakilerden hangisidir?

- A) Yağ B) Vitamin
C) Protein D) Karbonhidrat

11. I. Dünyadaki su miktarının büyük çoğunluğunu tuzlu sular oluşturur.
II. İnsanlar tarafından içilmeye ve kullanılmaya en elverişli sular tatlı sulardır.
III. Tatlı suların büyük çoğunluğunu buzullar ve yeraltı suları oluşturur.

Yukarıda verilen açıklamalardan hangileri doğrudur?

- A) Yalnız I B) I ve II.
C) II ve III. D) I, II ve III.

12. İçme sularının dezenfeksiyonu amacıyla yapılan işlemlerden hangisidir?

- A) Havalandırma
B) Dinlendirme
C) Klorlama
D) Damıtma

13. Hazır gıdaların ambalaj etiketinde bulunan katkı maddesi kodu hangi harf ile başlar?

- A) K B) G C) E D) H

14. I. Yapısında yüzey aktif madde bulunur.
II. Bitkisel ve hayvansal yağlardan üretilir.
III. Kir çıkarma özelliği vardır.
Yukarıda verilenlerden hangileri deterjanlara ait özelliklerdendir?

- A) I ve II. B) I ve III.
C) II ve III. D) I, II ve III.

15. • Kauçuk
• Protein
• Polietilen
• Polistiren

Yukarıda verilen maddelerden kaç tanesi polimerdir?

- A) 4 B) 3 C) 2 D) 1

16. Aşağıda verilenlerden hangisi ilaç formlarından biri değildir?

- A) Tablet B) Şeker
C) Şurup D) Merhem

17. I. Antimikrobiyal maddeler
II. Nemlendiriciler
III. Çözücüler

Verilenlerden hangileri kozmetik ürün bileşenlerindedir?

- A) Yalnız I B) I ve III.
C) II ve III. D) I, II ve III.

18. Üreticiler tarafından "şeker gübresi" olarak adlandırılan gübre, aşağıdakilerden hangisidir?

- A) Diamonyum fosfat
B) Sodyum karbonat
C) Amonyum sülfat
D) Kalsiyum oksit

19. SiO₂ (Kum) hangi yapı malzemesinin ana maddesidir?

- A) Cam B) Kireç
C) Seramik D) Porselen

20. Aşağıda verilen bilgilerden hangisi yanlıştır?

- A) Küresel ısınma sonucunda denizlerdeki su seviyesi yükselmektedir.
B) Artan sera etkisiyle dünyanın ortalama sıcaklığı azalmaktadır.
C) Fabrika bacalarına filtre takılması hava kirliliğini azaltmaktadır.
D) Ağır metaller, suların kirlenmesine sebep olmaktadır.

(435) KİMYA – 5

1. "Kütlenin korunumu yasası" nı bulan bilim insanı aşağıdakilerden hangisidir?

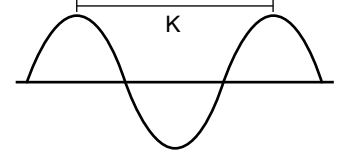
- A) Rutherford B) Proust
C) Lavoisier D) Milikan

2. I. Proton
II. Nötron
III. Elektron

Yukarıda verilenlerden hangileri atomda bulunan yüklü taneciklerdir?

- A) I ve II. B) I ve III.
C) II ve III. D) I, II ve III.

3.



Şekildeki dalgada K ile gösterilen ifade aşağıdakilerden hangisidir?

- A) Hız B) Frekans
C) Genlik D) Dalga Boyu

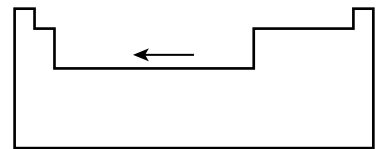
4. Temel halde bulunan ¹¹Na elementinin kaç tane tam dolu orbitali vardır?

- A) 5 B) 4 C) 3 D) 2

5. Aşağıda verilen orbitallerden hangisinin enerjisi diğerlerinden daha düşüktür?

- A) 3d B) 4s C) 5p D) 6s

6.



Verilen periyodik tabloda gösterilen ok (←) yönünde, aşağıdaki özelliklerden hangisi artar?

- A) İyonlaşma enerjisi
B) Elektronegatiflik
C) Atom yarıçapı
D) Elektron ilgisi

3. OTURUM

7. Aşağıdaki iyonlardan hangisinin yarıçapı en büyüktür?

- A) $_{13}\text{Al}^{3+}$ B) $_{8}\text{O}^{2-}$
C) $_{9}\text{F}^{-}$ D) $_{12}\text{Mg}^{2+}$

8. "Diazot trioksit" bileşiğinin formülü aşağıdakilerin hangisinde doğru verilmiştir?

- A) N_3O_2 B) N_2O_5
C) NO_2 D) N_2O_3

9. I. $\text{H}_2\text{SO}_4 \rightarrow$ Zaç yağı
II. $\text{NH}_3 \rightarrow$ Amonyak
III. $\text{HCl} \rightarrow$ Kezzap

Yukarıda bazı bileşikler ve günlük yaşamda kullanılan yaygın isimleri verilmiştir.

Buna göre hangi bileşiklerin isimleri doğru yazılmıştır?

- A) Yalnız I B) I ve II.
C) II ve III. D) I, II ve III.

10. $\text{Li}_{(k)} + \text{N}_{2(g)} \rightarrow \text{Li}_3\text{N}_{(k)}$ tepkimesi en küçük tam sayılarla denkleştirilirse tepkimeye giren maddelerin kat sayıları toplamı kaç olur?

- A) 3 B) 5 C) 7 D) 9

11. $\text{C}_{(k)} + \text{O}_{2(g)} \rightarrow \text{CO}_{2(g)}$ tepkimesi ile ilgili verilen:

- I. C indirgendir.
II. O_2 yükseltgendir.
III. Çözünme - çökelme tepkimesidir.
bilgilerinden hangileri doğrudur?

- A) I ve II. B) I ve III.
C) II ve III. D) I, II ve III.

12. 44 gram CO_2 bileşiği kaç moldür? (C: 12 g/mol, O: 16 g/mol)

- A) 0,25 B) 0,5
C) 1 D) 2,5

13. 3 mol H_2O bileşiği ile ilgili verilen:

- I. 36 gramdır.
II. $3 \cdot N_A$ tane molekül içerir.
III. 1 molü 18 gramdır.

bilgilerinden hangileri doğrudur?

(H: 1 g/mol, O: 16 g/mol,
 N_A : Avogadro sayısı)

- A) Yalnız I B) Yalnız III
C) I ve II. D) II ve III.

14. Genel formülü C_nH_{2n} olan bir bileşiğin mol kütlesi 28 gramdır.

Buna göre bu bileşiğin molekül (gerçek) formülü aşağıdakilerden hangisidir?

(H: 1 g/mol, C: 12 g/mol)

- A) CH_2 B) C_2H_4
C) C_3H_6 D) C_4H_{10}

15. Aşağıda verilenlerden hangisi gazlara ait bir özellik değildir?

- A) Sıkıştırılabilirler.
B) Belirli bir hacimleri vardır.
C) Buldukları kabı tamamen doldururlar.
D) Tanecikleri arasındaki boşluklar çok fazladır.

16. • torr

- bar
• Pa
• cmHg

Yukarıda verilenlerden kaç tanesi basınç birimidir?

- A) 1 B) 2 C) 3 D) 4

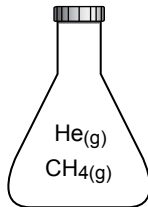
17. Normal koşullarda 11,2 litre hacim kaplayan N_2 gazı kaç moldür?

- A) 0,5 B) 1 C) 2,5 D) 4

18. Kapalı bir kaptaki bulunan 4 mol SO_2 gazının 0°C sıcaklık ve 2 atm basınçta kapladığı hacim kaç litredir?

- A) 44,8 B) 22,4
C) 11,2 D) 5,6

19.



Şekilde verilen sabit hacimli kapalı kaptaki, aynı sıcaklıkta 2 mol He gazı ile 4 mol CH_4 gazı bulunmaktadır.

Toplam basınç 3 atm olduğuna göre CH_4 gazının kısmi basıncı kaç atm'dir?

- A) 0,5 B) 1 C) 1,5 D) 2

20. H₂(g) O₂(g)

Aynı koşullarda bulunan H_2 ve O_2 gazları, şekilde verilen eşit bölmeleştirilmiş cam borunun iki ucundan aynı anda gönderiliyor.

Buna göre bu gazlar ilk olarak kaç numaralı çizgide karşılaşır?

(H_2 : 2 g/mol, O_2 : 32 g/mol)

- A) 2 B) 4 C) 6 D) 8

(445) BİYOLOJİ – 5

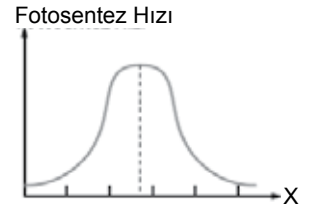
1. Aşağıda verilen canlılardan hangisi ototrof (kendi besinini üretme) beslenme göstermez?

- A) Mantar
B) Eğrelti otu
C) Nitrat bakterisi
D) Alg

2. Aşağıda verilen olaylardan hangisi fotosentezin ışıkta bağımsız tepkimelerinde gerçekleşir?

- A) Klorofilin ışığı soğurması (tutması)
B) Su molekülünün fotolize uğraması
C) Oksijen gazının açığa çıkması
D) Karbondioksitin kullanılması

3. Aşağıda fotosentez hızını etkileyen çevresel bir faktörün artmasına bağlı olarak fotosentez hızı grafiği verilmiştir.

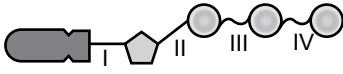


Buna göre yatay ekseninde verilen çevresel faktör aşağıdakilerden hangisidir?

- A) Işık şiddeti
B) Işığın dalga boyu
C) Sıcaklık
D) Karbondioksit miktarı

3. OTURUM

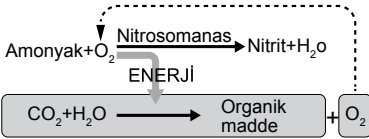
4. Aşağıda ATP (Adenozin tri fosfat) şematize edilmiş ve yapısındaki bağlar numaralandırılarak verilmiştir.



Buna göre numaralandırılmış bağlardan hangileri yüksek enerjili fosfat bağlarıdır?

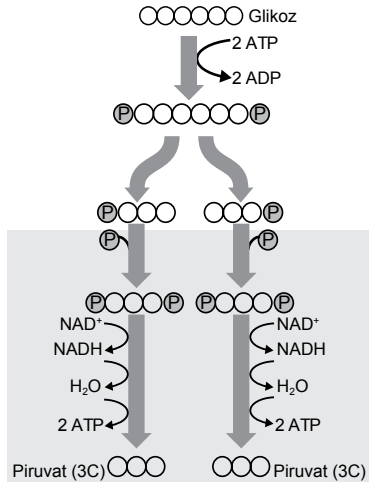
- A) Yalnız I B) I ve II.
C) III ve IV. D) I, II ve IV.

5. Aşağıdaki kemosentetik bir bakteri olan nitrosomanas bakterilerinin gerçekleştirdiği kemosentez olayı verilmiştir.



Buna göre nitrosomanas bakterisi ile ilgili aşağıdaki yargılardan hangisi yanlıştır?

- A) Besin üretmek için ışığa gereksinim duymaz.
B) Besin üretimi sırasında açığa çıkan oksijeni atmosfere verir.
C) Besin üretimi için gerekli olan enerjiyi inorganik maddeleri oksitleyerek karşılar.
D) Ototrof (üretici) bir organizmadır.
6. Aşağıda solunum reaksiyonlarının ortak kısmı olan glikoliz şematize edilmiştir.



Buna göre;

- I. Glikoliz sırasında iki tane üç karbonlu piruvat molekülü açığa çıkar.
II. Tepkime sonunda net 2 ATP'lik kazanç elde edilir.
III. NAD⁺ molekülü indirgenerek NADH molekülü oluşur.

yargılarından hangileri doğrudur?

- A) Yalnız II B) I ve II.
C) II ve III. D) I, II ve III.

7. Aşağıda verilen olaylardan hangisi fermantasyon tepkimeleri ile gerçekleşmez?

- A) Sirke yapımı
B) Turşu yapımı
C) Komposto yapımı
D) Yoğurt yapımı

8. I. Etil alkol fermantasyonu
II. Laktik asit fermantasyonu
III. Oksijenli solunum

Yukarıda verilen metabolik olayların hangisinin sonucunda karbondioksit gazı açığa çıkamaz?

- A) Yalnız I B) Yalnız II
C) I ve II. D) II ve III.

9. Aşağıda bazı ATP üretim şekilleri verilmiştir

- I. Oksidatif fosforilasyon
II. Substrat düzeyinde fosforilasyon
III. Fotofosforilasyon

Buna göre numaralandırılmış ATP üretim şekillerinden hangileri oksijenli solunumda görülür?

- A) Yalnız I B) Yalnız II
C) Yalnız III D) I ve II.

10. Aşağıda verilenlerden hangisi merkezi sinir sistemi elemanı olan beyin bölümlerinden biri değildir?

- A) Talamus
B) Beyincik
C) Omurilik
D) Omurilik soğanı

11. Aşağıda verilen durumlardan hangisi aşırı korku, heyecan, mutluluk gibi durumları kontrol eden sempatik sinir sisteminin etkisi ile meydana gelmez?

- A) Göz bebeklerinin büyümesi
B) Tükürük salgısının artması
C) Kalp atışının hızlanması
D) Kan basıncının artması

12. Bir bireyin aşağıdaki hareketlerinden hangisi reflekse örnek olarak verilebilir?

- A) Oturduğu yerden kalkması
B) Gazeteyi sehpanın üzerinden alarak babasına vermesi
C) Yerine otururken ayağına iğne batması ve ayağını hızlıca çekmesi
D) Yerine oturduktan sonra kitabını okumaya devam etmesi

13. Aşağıda görevlerine göre nöronlar numaralandırılarak verilmiştir.

- I. Duyu nöronu
II. Ara nöron
III. Motor nöron

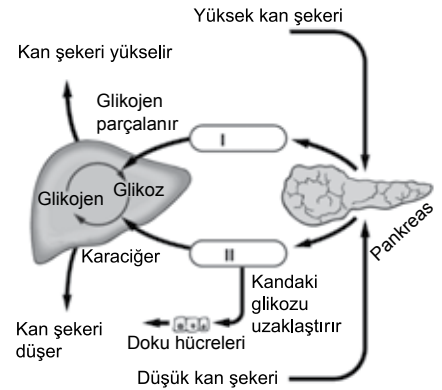
Buna göre, reseptörden alınan bir uyarı tepki organına iletilene kadar verilen nöronlardan hangi sıra ile geçer?

- A) I – II – III B) I – III – II
C) II – I – III D) III – I – II

14. Görme ve işitme refleksi aşağıda verilen merkezi sinir sistemi kısımlarından hangisi ile denetlenir?

- A) Orta beyin
B) Omurilik soğanı
C) Hipotalamus
D) Beyincik

15. Aşağıda kan şekerinin düzenlenmesi ile ilgili bir şema verilmiştir.



Buna göre pankreas tarafından üretilerek kan şekerini düzenleyen I ve II numaralı hormonlar hangi seçenekte doğru olarak verilmiştir?

- | | I | II |
|----|------------|------------|
| A) | Kalsitonin | Glukagon |
| B) | Glukagon | İnsülin |
| C) | Adrenalin | Kortizol |
| D) | Kortizol | Aldosteron |

16. Aşağıda verilen endokrin bezlerden hangisinin ürettiği hormonun fazlalığı devliğe sebep olur?

- A) Hipofiz
B) Tiroit
C) Paratiroid
D) Böbrek üstü

3. OTURUM

17. Aşağıda verilen hastalıklardan hangisi tiroit bezi hastalıklarından biridir?

- A) Şekersiz diyabet
B) Tip I diyabet
C) Albino
D) Guatr

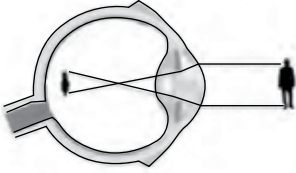
18. Kulakta bulunan aşağıdaki yapılardan hangisi beyincik ile birlikte vücut dengesinin sağlanmasında görevlidir?

- A) Yarım daire kanalları
B) Salyangoz
C) Kulak zarı
D) Çekiç, örs ve üzengi kemikleri

19. Dil ve burunda bulunan, uyarılabilmesi için uyarının mutlaka bir sıvı içerisinde çözünmesi gereken reseptör (almaç) çeşidi aşağıdakilerden hangisidir?

- A) Fotoreseptör
B) Kemoreseptör
C) Termoreseptör
D) Mekanoreseptör

20. Aşağıda bir göz kusuru şematize edilmiştir.



Buna göre belirtilen göz kusuru ile ilgili aşağıda verilen yargılardan hangisi doğrudur?

- A) Hipermetrop göz kusurudur.
B) Yakını iyi göremez.
C) Göz merceğinin kırıcılığının azalması ile meydana gelir.
D) Kalın kenarlı merceklerle düzeltilir.

(448) BİYOLOJİ – 8

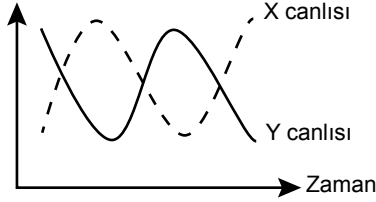
1. Rekabet, belli bir hayat kaynağı için iki organizma ya da iki farklı popülasyon arasında süren mücadeledir.

Buna göre iki farklı popülasyon aşağıda verilen durumlardan hangisi için rekabete girmez?

- A) Besin
B) Yaşam alanı
C) Eş
D) Su

2. Aşağıda iki canlı arasındaki simbiyotik ilişki (ortak yaşam) grafiklenmiştir.

Birey Sayısı



Buna göre grafikte verilen iki canlı arasındaki simbiyotik ilişki aşağıdakilerden hangisidir?

- A) Av -avcı ilişkisi
B) Kommensalizm
C) Mütualizm
D) Rekabet

3. Belirli bir bölgede uzun bir zaman içerisinde türlerin aşamalı olarak birbirlerinin yerlerini alması süksesyon, ardılık veya sıralı değişim olarak tanımlanır. Üzerinde canlı türü bulunmayan bir alana zaman içerisinde canlıların yerleşmeye başlaması birincil (primer) süksesyondur.

Buna göre primer süksesyonda ulaşılabilecek olan dengeli (kararlı) komüniteye verilen isim aşağıdakilerden hangisidir?

- A) Ekolojik niş
B) Klimaks
C) Funda – Çalı
D) Liken

4. "Bitki köklerinin uygun mantar türleri ile oluşturdukları simbiyotik ilişkiye mikoriza adı verilir. Bu ilişkide mantar bitkiye başta su ve fosfat olmak üzere bazı minerallerin kullanımını sunarken, karşılığında bitkiden organik besin sağlar."

Yukarıda özelliği verilmiş olan simbiyotik ilişki aşağıdakilerden hangisidir?

- A) Kommensalizm
B) Parazitlik
C) Rekabet
D) Mütualizm

5. Aşağıda bir popülasyon büyüklüğündeki değişim formülize edilmiştir.

$$\begin{array}{|c|} \hline \text{Popülasyon} \\ \text{büyüklüğün-} \\ \text{deki} \\ \text{değişme} \\ \hline X \\ \hline \end{array} = \begin{array}{|c|} \hline \text{Doğum} \\ + \\ \text{İçe} \\ \text{Göçler} \\ \hline Y \\ \hline \end{array} - \begin{array}{|c|} \hline \text{Ölüm} \\ + \\ \text{Dışa} \\ \text{Göçler} \\ \hline Z \\ \hline \end{array}$$

Buna göre;

- I. $Y > Z$ durumunda popülasyon büyümektedir.
II. X'in 0 olduğu durumda popülasyon dengededir.
III. $Z > Y$ durumunda popülasyonun yoğunluğu azalmaktadır.

verilen yorumlardan hangileri doğrudur?

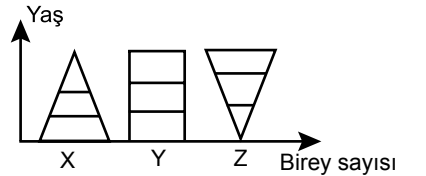
- A) Yalnız I
B) I ve III.
C) II ve III.
D) I, II ve III.

6. Bir popülasyonun yaşadığı çevrede sürekli büyümesine engel olan her türlü biyotik (canlı) ve abiyotik (cansız) faktörlere çevre direnci denir.

Buna göre aşağıda verilen faktörlerden hangisi bir popülasyon için çevre direnci oluşturan abiyotik bir faktör değildir?

- A) Işık
B) Parazitler
C) Yaşam alanı
D) İklim koşulları

7. Aşağıda üç farklı popülasyonun yaş ve birey sayısı değişimi grafiklenmiştir.



Buna göre;

- I. X popülasyonunun üreme öncesi dönemdeki birey sayısı üreme sonrası dönemdeki birey sayısından fazladır.
II. Y popülasyonu büyümekte olan bir popülasyondur.
III. Z popülasyonu bir süre sonra yok olma tehlikesi altındadır.

verilen yorumlardan hangileri doğrudur?

- A) Yalnız II
B) Yalnız III
C) I ve III.
D) I, II ve III.

3. OTURUM

8. Hardy - Weinberg prensibine göre bir popülasyondaki homozigot baskın genotipli bireylerin sayısı aşağıdakilerden hangisi ile ifade edilir?
- A) p^2
B) q^2
C) $p^2 + q^2$
D) $p^2 + 2pq$
9. Bir popülasyondaki gen frekansını aşağıda belirtilen durumlardan hangisi etkilemez?
- A) Mutasyon
B) Rastgele çiftleşme
C) Doğal seçim
D) Göçler
10. "Besin zincirlerinde zincirin geleceğini etkileyen, besin zincirlerindeki ekolojik rolleri çok önemli olan ve yok olduğunda ortam şartları değişen türlere - - - - adı verilir."
- Yukarıda verilen tanımdaki boşluğa aşağıda verilenlerden hangisi gelmelidir?
- A) kilit taşı
B) baskın
C) indikatör (gösterge)
D) istilacı
11. Aşağıda verilen hayvanlardan hangisinin nesli ülkemizde henüz tükenmemiştir?
- A) Kafkas öküzü
B) Hazar kaplanı
C) Asya filii
D) Kelaynak kuşu
12. Stanley Miller tarafından ortaya konulan "Heterotrof Hipotezi" ne göre dünyanın ilk atmosfer koşullarında aşağıda verilen gazlardan hangisi bulunmaz?
- A) Amonyak
B) Metan
C) Oksijen
D) Su buharı
13. Mutasyonlarla ilgili;
- I. Tüm hücrelerde meydana gelen mutasyonlar kalıtsaldır.
II. Mutasyonlar bir canlının gen yapısı, kromozom sayısı veya yapısında değişikliğe sebep olabilir.
III. Mutasyonlar, bir canlının genlerinin işleyişini değiştirir.
- verilen ifadelerden hangileri doğrudur?
- A) Yalnız II
B) Yalnız III
C) I ve II.
D) II ve III.
14. Genellikle aynı sınıfta yer alan canlılarda köken ve yapıları aynı, görevleri farklı olan organlara homolog organ denir.
- Buna göre;
- I. Sinek kanadı
II. Balina ön yüzgeci
III. Yarasa kanadı
IV. Koyun ön bacağı
- aşağıdaki seçeneklerden hangisinde tüm homolog organlar birlikte verilmiştir?
- A) I ve II.
B) I ve III.
C) II ve IV.
D) II, III ve IV.
15. • Sibirya kuzeye doğru hareket etmiştir.
• Özellikle balıkların çeşitlenme gösterdiği dönem olduğundan balık devri olarak da adlandırılır.
• Odunsu gövdeye sahip olan ağaçların oluşturduğu ormanlar dönem sonunda gözlenmeye başlamıştır.
- Yukarıda özellikleri verilen jeolojik dönem aşağıdakilerden hangisidir?
- A) Silüryen
B) Karbonifer
C) Devoniyen
D) Permian
16. Aşağıda verilen faktörlerden hangisi canlı çeşitliliğinin değişimlerin nedenleri arasında sayılamaz?
- A) Krossing – over (cross – over)
B) Modifikasyon
C) Mayoz bölünme
D) Mutasyon
17. Yapay seçimle ilgili aşağıda verilen ifadelerden hangisi yanlıştır?
- A) Evcil köpeklerin çeşitlenmesini sağlamıştır.
B) Bazı lahana çeşitlerinin elde edilmesini sağlamıştır.
C) Tür içi çeşitliliği artırmıştır.
D) Çok ve kaliteli ete sahip koyun, inek gibi hayvanlar elde edilmiştir.
18. Bir popülasyonda büyüme hızının sıfır olduğu evre aşağıdakilerden hangisidir?
- A) Kuruluş evresi
B) Logaritmik artış evresi
C) Negatif artış evresi
D) Denge evresi
19. Aşağıdakilerden hangisi komünite içerisinde yer almaz?
- A) Toprak
B) Ağaç
C) Çekirge
D) Yılan
20. L. Pasteur ve F. Redi'nin ortaya koyduğu "Canlılar, cansız varlıklardan kendiliğinden değil, önceki atalarından oluşmuştur." hipotezi aşağıdakilerden hangisidir?
- A) Abiyogenez
B) Biyogenez
C) Panspermia
D) Ototrof

(452) ÇAĞ.TÜRK DÜN.TAR. – 2

1. Aşağıdakilerden hangisi Yumuşama Dönemi politikalarından biri değildir?

- A) Anlaşmazlıkların müzakereler yoluyla çözümlenmesi
B) Ticari ilişkilerin sınırlandırılması
C) Nükleer silahların sınırlandırılması görüşmeleri
D) Devletler arasında barışı sağlayacak yakınlaşma

2. Vietnam Savaşı aşağıdaki hangi devletler arasında gerçekleşmiştir?

- A) Kuzey Vietnam – ABD
B) İngiltere – İtalya
C) Kuzey Kore – Güney Kore
D) Doğu Almanya – Batı Almanya

3. Aşağıdakilerden hangisi Yumuşama Dönemi'nde yaşanan silahlı mücadelelerden biri değildir?

- A) Vietnam Savaşı
B) Keşmir Meselesi
C) Arap-İsrail Savaşları
D) I. Dünya Savaşı

4. Aşağıdakilerden hangisi 1970'lerde Türkiye ekonomisinde sıkıntılar yaşanmasının nedenlerinden biri değildir?

- A) 1973 petrol krizi
B) İşçi dövizlerindeki azalma
C) İstikrarsız koalisyon hükümetleri
D) Nükleer silahların sınırlandırılması

5. 27 Mayıs 1960 askerî müdahalesi sonucunda yargılanarak idam edilen dönemin başbakanı aşağıdakilerden hangisidir?

- A) Celal Bayar
B) İsmet İnönü
C) Adnan Menderes
D) Cemal Gürsel

3. OTURUM

6. SSCB'nin dağılmasından sonra 1991'de bağımsızlığını ilan eden Kazakistan'ı tanıyan ilk devlet aşağıdakilerden hangisidir?

- A) Rusya B) Türkiye
C) İran D) Mısır

7. Dünyaca ünlü Kırgız yazar aşağıdakilerden hangisidir?

- A) Cengiz Aytmatov
B) Adil Yakubov
C) Saparmurad Niyazov
D) Cengiz Dağcı

8. Aşağıdakilerden hangisi Türk İş Birliği ve Kalkınma İdaresi Başkanlığı'nın (TİKA) temel amacıdır?

- A) SSCB'ye karşı birlik olmak
B) Avrupa Birliğine tam üye olmak
C) Türkmen gazını Türkiye üzerinden Avrupa'ya satmak
D) Üye devletlerle ekonomi, teknik ve eğitimde işbirliğini geliştirmek

9. Aşağıdakilerden hangisi, Ermeni diasporasının amaçlarından biri değildir?

- A) İddialarını Türkiye'ye kabul ettirmek
B) Türkiye'den tazminat almak
C) Türkiye Büyük Millet Meclisi'ni kapatmak
D) Büyük Ermenistan hayalini gerçekleştirmek

10. Avrupa Birliği'ne üye olabilmek için aday ülkelerin tam üyeliğe kabul edilmeden önce karşılamaları gereken kriterler aşağıdakilerden hangisinde belirtilmiştir?

- A) Cenevre Sözleşmesi
B) Kopenhag Kriterleri
C) Monroe Doktrini
D) Marshall Planı

11. Aşağıdakilerden hangisi 1970'lerde Türk sinemasının ünlü oyuncularından biri değildir?

- A) Münir Özkul
B) Cüneyt Arkın
C) Cem Yılmaz
D) Adile Naşit

12. Aşağıdakilerden hangisinde Türkiye, oy birliği ile Avrupa Birliği'ne aday ülke olarak kabul edilmiştir?

- A) Helsinki Zirvesi
B) Ankara Antlaşması
C) Maastricht Kriterleri
D) Münih Konferansı

13. Aşağıdaki ülkelerden hangileri arasında Dağlık Karabağ sorunu yaşanmıştır?

- A) Türkiye - Yunanistan
B) Türkiye - Bulgaristan
C) Yunanistan - Bulgaristan
D) Azerbaycan - Ermenistan

14. Yunanistan'ın Kıbrıs Barış Harekati'nden sonra Ege Denizi'nin tümünü tehlikeli bölge ilan ederek Ege semalarını uluslararası hava trafiğine kapatmasıyla ortaya çıkan sorun aşağıdakilerden hangisidir?

- A) Kıta Sahaneliği
B) Fır Hattı
C) Kara Suları
D) Ege Adaları

15. Aşağıdakilerden hangisi 1969 - 1980 yılları arasında Türkiye'nin sosyal ve kültürel hayatında yaşanan değişimlerden biri değildir?

- A) Köyden kente göç
B) Gecekondulaşma
C) İşçi sayısındaki artış
D) İnternetin yaygınlaşması

16. 1996 yılında Rusya, Çin, Kırgızistan, Kazakistan ve Tacikistan'ın kurdukları iş birliği yapılanması aşağıdakilerden hangisidir?

- A) Şanghay Beşlisi
B) Avrupa Birliği
C) Avrupa Ekonomik Topluluğu
D) Varşova Paketi

17. Aşağıdaki akarsulardan hangisinin paylaşımı Orta Doğu'daki su sorununda etkili olmamıştır?

- A) Nil B) Sakarya
C) Dicle D) Fırat

18. Aşağıdakilerden hangisi 1980 sonrası Türkiye'de cumhurbaşkanlığı yapmıştır?

- A) Turgut Özal
B) Necmettin Erbakan
C) Mesut Yılmaz
D) Bülent Ecevit

19. Aşağıdakilerden hangisi dünyadaki açlık sorununun giderek büyümesine neden olan gelişmelerden biri değildir?

- A) İsraf
B) Kuraklık
C) Bölgesel çatışmalar
D) Ticaretin gelişmesi

20. Aşağıdakilerden hangisi kanatlı hayvanlarda toplu ölümlere yol açan ve H5N1 virüsünün insanlara bulaşmasıyla ortaya çıkan salgın hastalıktır?

- A) Sıtma B) Verem
C) Kuş gribi D) Veba

(462) EKONOMİ – 2

1. Gelirin özelliklerine göre aşağıdakilerden hangisi gelir çeşitlerinden biridir?

- A) Miras B) Bağış
C) Ücret D) Sadaka

2. Üretim faktörlerinden toprağın geliri aşağıdakilerden hangisidir?

- A) Kâr B) Faiz
C) Ücret D) Rant

3. Et fiyatlarının aşırı ölçüde artmasıyla insanların tavuk ve balığa olan taleplerinin yükselmesi, hangi ekonomi yasasına örnek olur?

- A) Enflasyon yasasına
B) İkame yasasına
C) Talep yasasına
D) Arz yasasına

4. Aşağıdakilerden hangisi reel ücretin tanımıdır?

- A) Alınan ücretin satın alma gücü
B) Parça başına hesaplanan ücret
C) Zaman birimine göre hesaplanan ücret
D) İşçinin çalışmasına karşılık aldığı para miktarı

3. OTURUM

5. Banka mevduat hesabındaki paranın geri alınması ile sağlanan para ekonomide gelir kabul edilmez.
Bu durum, gelirin hangi özelliğine örnek olur?
- A) Gelirin para ile ifade edilmesine
B) Gelirin sürekli ve düzenli olmasına
C) Gelirin kişilerin ekonomik güçlerini artırmasına
D) Gelirin üretime katılmanın karşılığı olmasına
6. Malların doğrudan doğruya bir ihtiyacı karşılamak için kullanılmasına ne denir?
- A) Üretim
B) Dağıtım
C) Dolaylı tüketim
D) Dolaysız tüketim
7. Doğa ve emeğin birleşmesiyle üretilmiş olan, mal veya hizmet üretiminde kullanılan her türlü maddi araçlara sermaye denir.
Bu tanıma göre, aşağıdakilerden hangisi sermayenin özelliklerinden değildir?
- A) Doğa ve emeğin birleşmesiyle meydana gelmişlerdir.
B) Önceden üretilmiş olan maddi araçlardır.
C) Doğada sınırsız miktarda bulunurlar.
D) Yeni bir üretimde kullanılırlar.
8. Hazırlık evresi ya da eğitim gerektiren işlerde çalışanların emeğine ne denir?
- A) Vasıflı emek
B) Objektif emek
C) Vasıfsız emek
D) Subjektif emek
9. Üretim faaliyetine katılan aşağıdaki elemanlardan hangisi üretim sonucunda değişikliğe uğrar?
- A) Ulaşım araçları
B) Ham maddeler
C) Makineler
D) Araziler
10. Tasarruf aşağıdakilerden hangisinin oluşumunu sağlar?
- A) Sermayenin B) Üretimin
C) Gelirin D) Giderin
11. Aşağıdakilerden hangisi ekonomik büyümenin göstergelerinden biridir?
- A) Ulusal gelirin artması
B) Ulusal gelirin düşmesi
C) İhracat ve ithalatın düşmesi
D) Kamu harcamalarının artması
12. Malların insanlar arasında el değiştirmesine ne denir?
- A) Üretim B) Mübadele
C) Tüketim D) İnkısam
13. Türkiye'de kâğıt para basma yetkisine sahip olan banka aşağıdakilerden hangisidir?
- A) İş Bankası
B) Ziraat Bankası
C) Vakıflar Bankası
D) Merkez Bankası
14. Aşağıdakilerden hangisi çevre kirliliğine neden olan etkenlerdendir?
- A) Çevre eğitiminin yaygınlaştırılması
B) Altyapı işlerinin yapılması
C) Nüfusun aşırı artması
D) Yeşil alanların artması
15. "Türkiye'nin asıl sahibi ve efendisi, gerçek üretici olan köylüdür. O hâlde herkesten daha çok refah, mutluluk ve servete hak kazanan ve layık olan da köylüdür..."
Atatürk, 1 Mart 1922'de TBMM'yi açış konuşmasında söylediği yukarıdaki sözleri ile aşağıdaki sektörlerden hangisinin önemini vurgulamıştır?
- A) Hizmet B) Tarım
C) Sanayi D) Ulaşım
16. • Ekonomik bir ünedir.
• Karar alma merkezidir.
• Mal ve hizmet üreten ve satan bir ünedir.
• Üretim faktörlerini sağlayan ve kullanan bir ünedir.
Bu özellikler aşağıdakilerden hangisine aittir?
- A) Üretime B) Girişime
C) Kişilere D) Sermayeye
17. Aşağıdakilerden hangisi rekabetin özelliklerinden değildir?
- A) Piyasada tekel oluşturması
B) İşletmeleri daha aktif hâle getirmesi
C) Yeni üretim yöntemlerini kullanmaması
D) Genel olarak fiyatların düşmesini sağlaması
18. Üretim yöntemi ile millî gelirin hesaplanması için hangi değerler toplanır?
- A) Devletin bir yıl içinde topladığı vergiler
B) Bir yıl içinde mal ve hizmete yapılan harcamalar
C) Üretim faktörlerinin bir yıl içinde elde ettiği gelirler
D) Tarım, sanayi ve hizmet sektörlerinin bir yıl içinde ürettiği mal ve hizmet miktarları
19. Maden rantının ortaya çıkış nedeni aşağıdakilerden hangisidir?
- A) Maden üretiminde farklı teknolojiler kullanılması
B) Tarım yapılan toprakların verimliliğinin farklı olması
C) Bir madenin değişik alanlarda farklı maliyetlerde üretilmesi
D) Şehrin değişik yerlerindeki konut ve iş yeri kiralalarının farklı olması
20. Millî gelirin üretim faktörlerinin üretimden aldıkları paylara göre dağılımına dağılımı denir.
Boş bırakılan yere aşağıdakilerden hangisi yazılmalıdır?
- A) kişisel B) mesleki
C) sektörel D) fonksiyonel

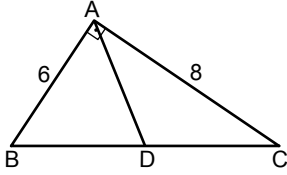
3. OTURUM

(468) MATEMATİK – 8

1. Bir ABC dik üçgeninde $[AB] \perp [AC]$ ve $|AB| = 2$ cm, $|AC| = 4\sqrt{2}$ cm'dir. Buna göre $|BC|$ kaç santimetredir?

A) 4 B) 5 C) 6 D) 8

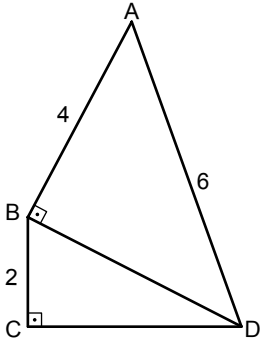
2.



- Şekildeki ABC dik üçgeninde $[AB] \perp [AC]$, $|BD| = |DA|$ ve $|AB| = 6$ cm, $|AC| = 8$ cm'dir. Buna göre $|DC|$ kaç santimetredir?

A) 4 B) 5 C) 6 D) 7

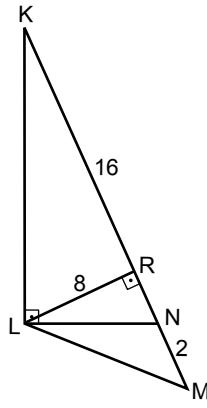
3.



- Şekildeki ABD ve BCD dik üçgenlerinde $[AB] \perp [BD]$, $[BC] \perp [CD]$ ve $|AB| = 4$ cm, $|AD| = 6$ cm, $|BC| = 2$ cm'dir. Buna göre $|CD|$ kaç santimetredir?

A) 3 B) 4 C) 5 D) 6

4.

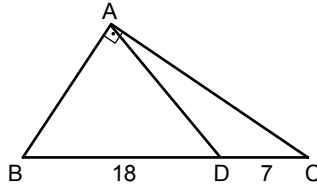


- Şekilde KLN ve MRL dik üçgenlerdir. $[KL] \perp [LN]$, $[LR] \perp [KM]$ ve $|KR| = 16$ cm, $|RL| = 8$ cm, $|NM| = 2$ cm'dir.

- Buna göre $|LM|$ kaç santimetredir?

A) 10 B) 9 C) 8 D) 7

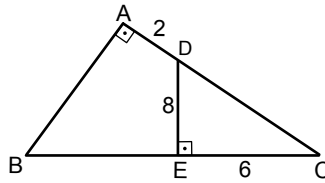
5.



- Şekildeki ABC dik üçgeninde $[AB] \perp [AC]$ ve $|AB| = |AD|$, $|BD| = 18$ cm, $|DC| = 7$ cm'dir. Buna göre $|AC|$ kaç santimetredir?

A) 16 B) 18 C) 19 D) 20

6.

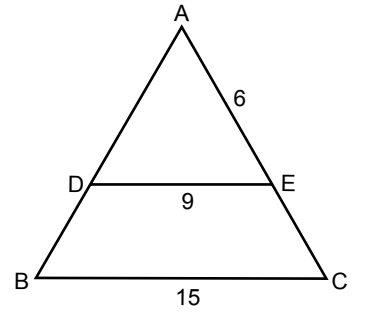


- Şekildeki ABC dik üçgeninde $[AB] \perp [AC]$, $[DE] \perp [BC]$ ve $|AD| = 2$ cm, $|DE| = 8$ cm, $|EC| = 6$ cm'dir.

- Buna göre $|BE|$ kaç santimetredir?

A) 12 B) 14 C) 16 D) 18

7.

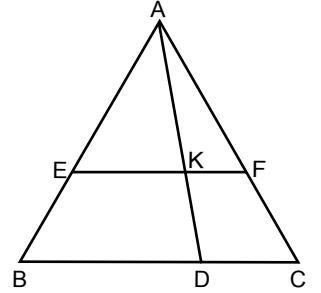


- Şekildeki ABC üçgeninde $[DE] \parallel [BC]$ ve $|DE| = 9$ cm, $|BC| = 15$ cm, $|AE| = 6$ cm'dir.

- Buna göre $|EC|$ kaç santimetredir?

A) 2 B) 3 C) 4 D) 5

8.

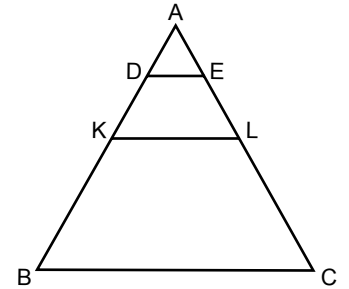


- Şekildeki ABC üçgeninde $[EF] \parallel [BC]$, $A(\widehat{AEK}) = 12$ cm², $A(\widehat{ABD}) = 27$ cm², $A(\widehat{AKF}) = 8$ cm² dir.

- Buna göre $A(\widehat{ADC})$ kaç santimetrekaredir?

A) 15 B) 16 C) 17 D) 18

9.



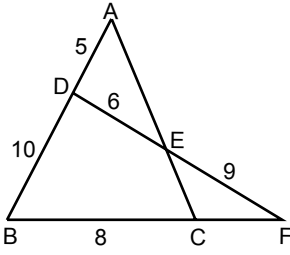
- Şekildeki ABC üçgeninde $[DE] \parallel [KL] \parallel [BC]$, $4|AD| = 2|DK| = |KB|$ ve $A(\widehat{DKLE}) = 24$ cm² dir.

- Buna göre $A(\widehat{KBCL})$ kaç santimetrekaredir?

A) 48 B) 72 C) 96 D) 120

3. OTURUM

10.



Şekildeki ABC ve DBF üçgenlerinde
 $|AD| = 5$ cm, $|DB| = 10$ cm,
 $|BC| = 8$ cm, $|FE| = 9$ cm ve
 $|ED| = 6$ cm'dir.

Buna göre $|CF|$ kaç santimetredir?

- A) 2 B) 3 C) 4 D) 6

11. 240 derecelik açının ölçüsü kaç radyandır?

- A) $\frac{4\pi}{3}$ B) $\frac{7\pi}{6}$
 C) $\frac{8\pi}{9}$ D) $\frac{2\pi}{3}$

12. 820 dakikalık açının derece ve dakika cinsinden eşiti aşağıdakilerden hangisidir?

- A) $13^\circ 20'$ B) $13^\circ 40'$
 C) $14^\circ 20'$ D) $14^\circ 40'$

13. $a = \cos 100^\circ$, $b = \sin 50^\circ$ ve $c = \cos 50^\circ$ dir.

Buna göre a, b ve c'nin küçükten büyüğe doğru sıralanışı aşağıdakilerden hangisidir?

- A) $c < b < a$ B) $c < a < b$
 C) $a < c < b$ D) $a < b < c$

14. $\sin 110^\circ$, $\cos 140^\circ$, $\tan 290^\circ$, $\tan 320^\circ$ değerlerinin işaretleri sırasıyla aşağıdakilerden hangisinde verilmiştir?

- A) -, -, -, + B) -, -, +, +
 C) +, -, -, + D) +, -, -, -

15. $\sin 150^\circ + \cos 240^\circ + \tan 315^\circ$ işleminin sonucu kaçtır?

- A) -1 B) 0 C) 1 D) 2

16. $\tan^2 x \cdot \cos^2 x + \cos^2 x$ ifadesinin eşiti aşağıdakilerden hangisidir?

- A) -1 B) 0 C) 1 D) 2

17. $f(x) = \sin^3(4x - 1)$ fonksiyonunun periyodu aşağıdakilerden hangisidir?

- A) $\frac{\pi}{4}$ B) $\frac{\pi}{2}$
 C) π D) 2π

18. $2\sin x - 5\cos x + 3$ ifadesinin alabileceği en küçük değer kaçtır?

- A) -1 B) -4 C) -5 D) -7

19. $a = 5\sin x - 2$ olduğuna göre a'nın en geniş değer aralığı aşağıdakilerden hangisidir?

- A) $[-7, 3]$ B) $[-5, 5]$
 C) $[-5, 3]$ D) $[-3, 5]$

20. $\alpha + \beta = \frac{\pi}{4}$ olduğuna göre,

$\sin(3\alpha + 2\beta)$ 'nin eşiti aşağıdakilerden hangisidir?

- A) $-\sin\alpha$ B) $\sin\alpha$
 C) $-\cos\alpha$ D) $\cos\alpha$

(478) MANTIK – 1

1. Doğruluğu, gözlem ve deneyle değil, akıl aracılığıyla bilinen yargılara mantık doğrusu denir.

Buna göre aşağıdakilerden hangisi mantık doğrusuna örnektir?

- A) Kar beyazdır.
 B) Bakır ısıtılınca genişler.
 C) Hiçbir insan kedi değildir.
 D) Su normal koşullarda $100^\circ\text{C}'de$ kaynar.

2. Dünya ve Mars kendi etrafında döner. Dünyada gece gündüz oluşur. O halde Mars'ta da gece gündüz oluşur.

Bu örnek aşağıdaki kavramlardan hangisine uygundur?

- A) Tümdengelim B) Tümevarım
 C) Özdeşlik D) Analoji

3. Bir akıl yürütmedeki her kavram ve önerme kendisiyle aynı olmalı, kendisinden başka bir şey olmamalıdır. Bir şey ne ise odur.

Tanımı verilen akıl ilkesi aşağıdakilerden hangisidir?

- A) Özdeşlik
 B) Çelişmezlik
 C) Yeter neden
 D) Üçüncü durumun olanaksızlığı

4. Mantık bilimi ile ilgili aşağıdakilerden hangisi yanlıştır?

- A) Farabi, İbn-i Sina ve Razi önemli İslam mantıkçılarıdır.
 B) Mantığı sistemli bir bilgi haline getiren kişi Aristoteles'tir.
 C) Mantık üzerine yazılmış en eski ve en temel eser "Organon"dur.
 D) Aristoteles mantığı Orta Çağ'da etkisini yitirmiştir.

5. I. İnsan
 II. Dünya
 III. Gezegen

Yukarıdakilerden hangileri genel kavramdır?

- A) I ve II. B) I ve III.
 C) II ve III. D) I, II ve III.

6. Gerçekliği olan bir kavramın belli bir nesne somutlaşmasına kimlik denir.

Buna göre aşağıdakilerden hangisinin kimliği vardır?

- A) Malatya kayısı
 B) Kaf Dağı
 C) Kedi
 D) Dev

7. Canlı → Hayvan → Kuş → Güvercin

Yukarıdaki sıralamada kaplamı en fazla olan kavram hangisidir?

- A) Kuş B) Canlı
 C) Hayvan D) Güvercin

8. • Tüm köpekler havlayandır.
 • Tüm havlayanlar köpektir.

Bu önermelerde aşağıdaki kavramlar arası ilişkilerden hangisi vardır?

- A) Eksik girişimlik B) Tam girişimlik
 C) Ayrıklık D) Eşitlik

3. OTURUM

9. Türün cinsinden farkını gösteren temel özelliğidir.

Tanımı verilen kavram aşağıdakilerden hangisidir?

- A) Cins B) İlinti
C) Ayırım D) Özgünlük

10. Aşağıdakilerden hangisi önermedir?

- A) Arkadaşım çok düşüncelidir.
B) Sınavı geçmek için çok çalış.
C) Toplantıyı unuttun mu?
D) Vay canına!

11. Aşağıdakilerden hangisi "tanım"ın özelliklerindedir?

- A) Tanımda kısır döngü olmalıdır.
B) Bir kavram kendinden daha karmaşık bir terimle tanımlanabilir.
C) Bir kavramın kaplamasına giren tüm bireyler tanımda bulunmayabilir.
D) Tanımlanan bir özne ile tanımlayan bir yüklemden oluşan çelişkisiz bir önerme olmalıdır.

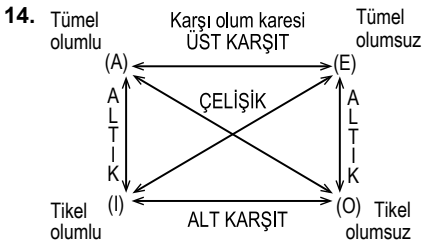
12. Bileşenlerinden birinin, kendi varlığıyla diğerini geçersiz kılmasına ayrık koşullu önerme denir.

Buna göre aşağıdakilerden hangisi ayrık koşullu önermedir?

- A) Arda meyve ve sebze ağırlıklı beslenir.
B) Ya bu sorunu çözersin ya da bu işten ayrılırsın.
C) Bilim mantıksaldır; çünkü akla dayanır.
D) Ebru çalışırsa sınıfını geçer.

13. Aşağıdakilerden hangisi tümel olumlu önermedir?

- A) Bazı insanlar gözlüklü değildir.
B) Hiçbir insan gözlüklü değildir.
C) Bütün insanlar gözlüklüdür.
D) Bazı insanlar gözlüklüdür.



Yukarıdaki karşı olum karesine göre; "Bütün bitkiler canlıdır." önermesinin çelişigi hangisidir?

- A) Bazı bitkiler canlı değildir.
B) Hiçbir bitki canlı değildir.
C) Bazı bitkiler canlıdır.
D) Bazı canlılar bitkidir.

15. I. Aynı nitelikte olma
II. Aynı nicelikte olma
III. Aynı terimlerden oluşma

Yukarıdakilerden hangileri karşı olum karesinde yer alan önermelerin özelliklerindedir?

- A) Yalnız II B) Yalnız III
C) I ve III. D) I, II ve III.

16. "Tüm çiçekler güzeldir." önermesinin düz döndürmesi aşağıdakilerden hangisidir?

- A) Hiçbir çiçek güzel değildir.
B) Bazı çiçekler güzel değildir.
C) Bazı çiçekler güzeldir.
D) Bazı güzeller çiçektir.

17. Bütün ressamlar sanatçıdır.

I
Abidin Dino ressamdır.

II
O halde Abidin Dino sanatçıdır.
III

Numaralanmış terimler aşağıdakilerin hangisinde doğru olarak verilmiştir?

	I	II	III
A)	Büyük terim	Küçük terim	Orta terim
B)	Büyük terim	Orta terim	Küçük terim
C)	Orta terim	Küçük terim	Büyük terim
D)	Orta terim	Büyük terim	Küçük terim

18. Zincirleme kıyasın bir türü olarak, zincirleme kıyasın ortasındaki sonuç önermelerinin çıkarılmasıyla elde edilir.

Tanımı verilen kıyas çeşidi aşağıdakilerden hangisidir?

- A) Sorit B) İkilem
C) Entimem D) Karma kıyas

19. Aşağıdakilerden hangisi basit kıyas çeşitlerinden biri değildir?

- A) İkilem
B) Zincirleme kıyas
C) Ayrık koşullu kıyas
D) Bitişik koşullu kıyas

20. Aşağıdaki kesin kıyas kurallarından hangisi yanlıştır?

- A) İki olumlu öncülden çıkan sonuç olumludur.
B) Her kıyas, iki öncül ve bir sonuçtan oluşur.
C) Orta terim sonuç önermesinde bulunur.
D) İki olumsuz öncülden bir sonuç çıkmaz.

(500) İNGİLİZCE – 6

1 - 20. sorularda boş bırakılan yere uygun gelen kelime ya da ifadeyi işaretleyiniz.

1. I used to - - - - too much coffee when I was a student.

- A) read B) write
C) drink D) smell

2. Anthony : - - - -?

Martin : I am sorry, you can't.

- A) Can I use your dictionary for a minute
B) Can you help me with the computer
C) Did you finish your homework
D) Did I have to get up this early

3. Melinda : Could you open the window, please?

Amanda : - - - -.

- A) You can't use your phone
B) I am sorry, but it's very cold
C) You can help me if you want
D) I can't go out before I finish my work

4. Ted : - - - -?

Josh : Go straight ahead and turn right, it's next to the bank.

- A) How can you solve the problem
B) Would you like visit the museum
C) What time does the school start
D) Do you know where the post office is

5. Thomas : Could you help me with the dishes, please?

Mary : - - - -.

- A) Sure, I can speak English
B) Of course, I can help you
C) You can go if you finish
D) You can join the school team

6. Martha is a very successful student, she - - - - studies before the class.

- A) never B) rarely
C) always D) seldom

7. My mother hates tea, she - - - - drinks it.

- A) never B) always
C) usually D) generally

3. OTURUM

8. I have never ---- in England before.

- A) started B) played
C) done D) been

9. Joshua goes to the cinema ----.

- A) last year B) yesterday
C) in the future D) on Saturdays

10. My brother will be doctor ----.

- A) so far B) next year
C) last month D) five hours ago

11. ---- she comes today, we will go to the library.

- A) If B) Although
C) What D) While

12. I will ---- a new computer if I ---- money.

- A) write / watch B) play / write
C) buy / have D) stay / read

13. If you ---- harder, you will ---- your project.

- A) do / write
B) go / smell
C) clean / break
D) work / finish

14. If I ---- rich, I would ---- abroad.

- A) was / speak B) was / hate
C) were / go D) were / do

15. I feel relaxed ---- I finish my homework.

- A) while B) when
C) soon D) yet

16. You should wash your hands ---- you have dinner.

- A) just B) soon
C) while D) after

17. I had gone to school ---- the class started.

- A) before B) so
C) after D) yet

18. I know ---- the train leaves.

- A) when B) which
C) who D) whose

19. This is the mobile phone ---- I bought in America.

- A) why B) who
C) what D) which

20. I saw a man ---- was very tall.

- A) why B) who
C) whose D) where

(500) ALMANCA – 6

1 - 17. sorularda boş bırakılan yere uygun gelen kelime ya da ifadeyi işaretleyiniz.

1. Die Lehrerin sagt, ich ---- eine schöne Schrift.

- A) sei B) bin
C) hätte D) würde

2. Herr Yılmaz sagt, dass er sich ein schönes Haus kaufen ----.

- A) werden B) wolle
C) möchtet D) wünschst

3. Du bist noch hier, ich dachte du ---- schon gegangen.

- A) sei B) war
C) wirst D) wärst

4. A: Wie alt ist die neue Schülerin?
B: Sie sagt, sie ---- 15 Jahre alt.

- A) sei B) hat C) bist D) seit

5. Er will Tanzen lernen, ---- es ihm Spaß macht.

- A) denn B) aber C) weil D) dass

6. Meine Freundin sagte mir, sie ---- Kappadokien noch nicht gesehen.

- A) sind B) war C) ist D) hätte

7. Das Mädchen, ---- das Fahrrad gehört, ist 9 Jahre alt.

- A) der B) die C) das D) dem

8. Er kann nicht ---- schnell laufen ---- sie.

- A) wie / als B) so / wie
C) um / zu D) als / ob

9. Donnerstag, ----, Samstag

- A) Freitag B) Dienstag
C) Sonntag D) Mittwoch

10.



Wie spät ist es?
Es ist ----.

- A) Viertel nach fünf
B) Viertel vor sechs
C) halb sechs
D) halb fünf

11. Wenn ich reich wäre, ---- ich eine Weltreise machen.

- A) würde B) fahre
C) sei D) hätte

12. Ich dachte, Sie ---- im Jahr 2012 die Schule absolviert.

- A) seien B) hätten
C) würden D) sind

13. gehen, ----, gegangen

- A) geht B) geht
C) ging D) gehe

14. Die Frau, ---- Katze krank ist, ist traurig.

- A) deren B) denn
C) die D) darum

15. ---- das Wetter schön wäre, würden wir jetzt Picknick machen.

- A) Wann B) Wie
C) Wenn D) Was

3. OTURUM

16. ---- Montag haben wir ---- zehn Uhr Deutschprüfung.

- A) Im / am B) Am / um
C) Von / bis D) Um / zu

17. Der Mann, ---- einen Sportwagen hat, arbeitet in einer Bank.

- A) der B) die C) das D) dem

18.



Was macht das Mädchen?

- A) laufen B) singen
C) malen D) spielen

19. Aşağıdakilerden hangisi fiil değildir?

- A) lesen B) schwimmen
C) neben D) laufen

20. Aşağıdakilerden hangisinde "haben" fiilinin Konjunktiv hali verilmiştir?

- A) hat B) hast
C) hätte D) habe

(500) FRANSIZCA – 6

1 - 13. sorularda boş bırakılan yere uygun gelen sözcük ya da ifadeyi işaretleyiniz.

1. La mère de mon ami est ----.

- A) chinois B) anglaises
C) américaine D) turcs

2. Jean : ---- est votre profession ?
Paul : Je ne travaille pas. Je suis étudiant.

- A) Pourquoi B) Quelle
C) Quand D) Combien

3. Maman : Qu'est-ce que tu as ?
---- tu pleures ?

Enfant : Parce que j'ai perdu mon ballon.

- A) Comment B) Combien
C) Que D) Pourquoi

4. Zeynep : Tu te maries, c'est vrai ?

Sophie : Eh bien, oui. Tu connais déjà ----.

- A) mon fiancé B) ma mère
C) ma tante D) mon père

5. ---- est-ce que je peux aller au musée d'Orsay ?

- A) Où B) Pourquoi
C) Combien D) Comment

6. Dans la salle de sport, on fait ----.

- A) de la musique
B) du dessin
C) du pain
D) de la gymnastique

7. Kuzey : Tu fais de la natation ?

Caroline : Mais non, je ---- nager.

- A) ne sais pas B) savoir
C) sait bien D) ne savez pas

8. Henri : ---- travailles-tu jusqu'à minuit ?

Hervé : Pour gagner plus d'argent.

- A) Où B) Pourquoi
C) Combien D) Comment

9. Alice : As-tu un problème avec ta sœur ?

Odile : Non, je n'ai pas ---- problème avec elle.

- A) des B) une
C) de D) le

10. Jacques habite ---- Madrid, ---- Espagne.

- A) à / en B) en / à
C) à / au D) en / en

11. Albert : Qu'est-ce que c'est ?

Veysel : C'est ----.

- A) une touriste anglaise
B) un agent de police
C) une jeune fille
D) un téléphone portable

12. Alain va ---- pour prendre le train.

- A) à la station-service
B) à la gare
C) à l'aéroport
D) au café

13. Carole : Voulez-vous un peu de ---- ?

Lucas : Non, merci, je viens de manger à la cantine.

- A) pizza
B) vitamine C
C) petit-déjeuner
D) restaurant italien

14. Aşağıdakilerden hangisi "44" sayısının doğru yazılışdır?

- A) Quatre-vingts
B) Quatorze
C) Quarante-quatre
D) Quatre-vingt-quatorze

15 - 16. soruları planı dikkate alarak cevaplandırınız.

GARE	CINÉMA	PARKING	HÔTEL	POSTE
RUE DE LA FONTAINE				
PHARMACIE	BOUCHERIE	PÂTISSERIE	ÉPICERIE	CAFÉ

15. La boucherie est ----.


- A) en face du café
B) entre la pharmacie et la pâtisserie
C) à droite de la poste
D) à gauche de la gare

16. La poste est ----.

- A) au coin de la rue
B) entre l'hôtel et le parking
C) à droite du café
D) en face de la pâtisserie

17 - 20. soruları görseli dikkate alarak cevaplayınız.

17.



- A) Il est midi et demie.
B) Il est midi moins le quart.
C) Il est midi vingt.
D) Il est midi et quart.

18.



Elle est - - - .

- A) fleuriste B) infirmière
C) chanteuse D) cuisinière

19.



Il est - - - .

- A) pâtissier B) ouvrier
C) chauffeur D) serveur

20.



- A) Il est sept heures vingt-cinq.
B) Il est sept heures et quart.
C) Il est sept heures moins vingt-cinq.
D) Il est sept heures et demie.

(503) SEÇMELİ TARİH – 3

1. Aşağıdakilerden hangisi, Karesi Beyliği'nin Osmanlı topraklarına katılmasıyla ortaya çıkan sonuçlardan değildir?

- A) Rumeli'ye geçiş için önemli bir adım atılmıştır.
B) Karesi Beyliği'nin deniz gücünden yararlanmıştı.
C) Önemli devlet adamları ve yöneticiler Osmanlı hizmetine girmiştir.
D) Anadolu Türk birliğinin kurulması tam olarak sağlanmıştır.

2. Mehmet Çelebi'nin Osmanlı Devleti'nin ikinci kurucusu olarak nitelendirilmesinin nedeni aşağıdakilerden hangisidir?

- A) Genç yaşta tahta geçmesi
B) Parçalanmakta olan devletin birliğini tekrar sağlaması
C) Halk tarafından çok sevilmesi
D) Padişahlığı döneminde ülkede ekonomik refahı sağlaması

3. Osmanlı hükümdarları farklı dönemlerde çeşitli unvanlar kullanmışlardır. Aşağıdakilerden hangisi bu unvanlardan değildir?

- A) Tekfur B) Bey
C) Gazi D) Padişah

4. Osmanlı Devleti'nde Şehzade denilen hükümdar çocukları on ile on beş yaşları arasında, sancaklara vali olarak tayin edilirdi. Kendilerine Lala denilen bilgili kişiler yardımcı olurdu.

Bu uygulamanın temel gerekçesi aşağıdakilerden hangisidir?

- A) Taht kavgalarını önlemek
B) Devlet ekonomisini canlandırma da etkin rol almalarını sağlamak
C) Yönetim konusunda tecrübe kazanmalarını sağlamak
D) Hanedan üyelerinin kutsal olduklarını halka benimsetmek

5. Osmanlı Devleti'nde devlet işlerinin görüşülüp karara bağlandığı en yüksek karar organı aşağıdakilerden hangisidir?

- A) Toy
B) Kurultay
C) Divanihümayun
D) Şura Meclisi

6. Aşağıdakilerden hangisi İstanbul'un fethinin nedenlerinden birisi değildir?

- A) Haçlı Seferleri sırasında Bizans'ın zarar görmesi
B) Bizans'ın Osmanlı şehzadelerini kışkırtarak taht kavgaları çıkarması
C) İstanbul'un önemli bir ticaret merkezi olması
D) Anadolu ve Rumeli toprakları arasındaki bağlantının sağlanabilmesi

7. Aşağıdakilerden hangisi II. Mehmet zamanında Amasra, Sinop, Trabzon ve Kırım'ın fethinin sonuçlarından biridir?

- A) İstanbul'un denizden kuşatılması kolaylaşmıştır.
B) Karadeniz ticareti Osmanlıların kontrolüne geçmiştir.
C) Avrupa ülkelerinin deniz ticaretine son verilmiştir.
D) Doğudaki sınırlar güvenlik altına alınmıştır.

8. Osmanlı donanmasında deniz askerine ne ad verilmiştir?

- A) Sakalar
B) Sağ ve Sol Garipler
C) Levent
D) Yeniçeriler

9. • Okyanuslara dayanıklı gemilerin yapılması
• Pusulanın Avrupalılarca tanınması
• Cesur gemicilerin krallar tarafından desteklenmesi

gelişmeleri, aşağıdakilerden hangisinin ortaya çıkmasını kolaylaştırmıştır?

- A) Reform
B) Rönesans
C) Derebeylik yönetimi
D) Coğrafi Keşifler

10. I. Selim Dönemi'nde Doğu Anadolu'nun Osmanlı hâkimiyetine girdiği ve Safevi tehdidinin önlendiği savaş aşağıdakilerden hangisidir?

- A) Çaldıran B) Otlukbeli
C) Ridaniye D) I. Kosova

3. OTURUM

(504) SEÇMELİ TARİH – 4

11. 1533 yılında Avusturya ile yapılan İstanbul Antlaşması'na göre, Avusturya kralı protokol bakımından Osmanlı veziriazamına denk kabul edilmiştir.

Bu durum aşağıdakilerden hangisinin göstergesidir?

- A) Ülkeler arası protokol kurallarının uygulandığının
B) Avusturya ile iyi ilişkiler kurulduğunun
C) Avusturya'nın Osmanlı'nın üstünlüğünü kabul ettiğinin
D) Avrupa'daki Hristiyan birliğinin parçalandığının

12. Osmanlı toplumunda devlete vergi veren ve yönetimde görev almayan kesim aşağıdakilerden hangisidir?

- A) Seyfiye B) İlmîye
C) Kalemîye D) Reaya

13. Avrupa'da mezhep birliğinin bozulması, kilisenin elindeki topraklarını büyük ölçüde kaybetmesi, din adamlarına olan güvenin azalması aşağıdakilerden hangisinin sonucunda gerçekleşmiştir?

- A) Rönesans
B) Reform
C) Sanayi İnkılabı
D) Haçlı Seferleri

14. IV. Mehmet Dönemi'nde devletin mali durumunu düzeltmek için veziriazamlığa getirilen ve modern anlamda ilk kez devlet bütçesi çalışmaları yapan devlet adamı aşağıdakilerden hangisidir?

- A) Sokullu Mehmet Paşa
B) Nevşehirli İbrahim Paşa
C) Tarhuncu Ahmet Paşa
D) Köprülü Mehmet Paşa

15. Aşağıdakilerden hangisi Osmanlı Devleti'nin duraklamasına yol açan nedenlerden biri değildir?

- A) Yapılan savaşlarda sınırlarını genişletmesi
B) Tımar sisteminin bozulması
C) Hızlı nüfus artışı yaşanması
D) Yeni ticaret yollarının keşfi

16. XVII. yüzyılda Kuyucu Murat Paşa, IV. Murat, Köprülü Mehmet Paşa gibi devlet adamlarının yaptıkları ıslahatlarda uyguladıkları ortak yöntem aşağıdakilerden hangisidir?

- A) Batıdaki bilimsel ve teknolojik gelişmeleri takip edip yararlanmak
B) Baskı ve şiddete dayalı geçici çözümler üretmek
C) Dış ülkeler ile diplomatik ilişkilerde barışçı politikalar izlemek
D) Sorunların nedenlerini tespit edip gerçekçi çözümler üretmek

17. XVII. yüzyılda yetmişmiş, Osmanlı ülkesini 30 yıl baştanbaşa gezerek gördüğü şehirlerin; tarihi, coğrafi ve kültürel özelliklerini seyahatnamesinde anlatmış bilgin aşağıdakilerden hangisidir?

- A) Piri Reis B) Ali Kuşçu
C) Naima D) Evliya Çelebi

18. Osmanlı Devleti'nin batıda ilk kez büyük oranda toprak kaybettiği antlaşma aşağıdakilerden hangisidir?

- A) Bucuş B) Kasrışirin
C) Karlofça D) Zıvatorok

19. Avrupa'da XVII. yüzyılın Akıl Çağı olarak adlandırılmasında aşağıdakilerden hangisi etkili olmuştur?

- A) Sömürgecilik faaliyetlerinin hız kazanması
B) Özgür düşünce ve bilimsel alandaki gelişmeler
C) Ulaşım alanındaki gelişmeler
D) Barutun ateşli silahlarda kullanılması

20. Özel karışım suyuna boyaya serpiştirilmesiyle yapılan kâğıt süsleme sanatı aşağıdakilerden hangisidir?

- A) Ebru B) Hat
C) Minyatür D) Tezhip

1. Aşağıdakilerden hangisi Fransız İhtilali'nin yaydığı kavramlar arasında yer almaz?

- A) Eşitlik
B) Milliyetçilik
C) Ortak mülkiyet
D) Adalet

2. İnsan ve hayvan gücüne dayalı üretim tarzından, makine gücüne geçmesine - - - - denir.

Verilen cümlede boş bırakılan yere, aşağıdakilerden hangisi yazılmalıdır?

- A) Rönesans
B) Aydınlanma
C) Reform
D) Sanayi İnkılabı

3. Aşağıdakilerden hangisi III. Selim Dönemi yeniliklerinden değildir?

- A) İlk nüfus sayımının yapılması
B) Avrupa başkentlerinde daimi elçiliklerin kurulması
C) Kara Mühendis Okulunun açılması
D) Nizamıcedit Ordusunun kurulması

4. Osmanlı Devleti'nde Yeniçeri Ocağı'nın kaldırılması aşağıdaki hangi padişah döneminde gerçekleştirilmiştir?

- A) Abdülaziz B) II. Selim
C) Genç Osman D) II. Mahmut

5. Avrupa'da yaşanan,

- I. Sanayi İnkılabı
II. Fransız İhtilali
III. Sömürgecilik Hareketleri

gelişmelerinden hangileri Osmanlı Devleti'ni olumsuz etkilemiştir?

- A) Yalnız I B) Yalnız II
C) I ve II. D) I, II ve III.

3. OTURUM

6. Mısır Valisi Mehmet Ali Paşa isyanı sırasında Osmanlı Devleti Rusya'dan yardım istemiştir. Bu durum karşısında İngiltere ve Fransa araya girerek Osmanlı Devleti ile Mısır Valisi arasında Kütahya Antlaşması'nın imzalanmasını sağlamışlardır.

Bu bilgiye göre aşağıdakilerden hangisi yanlıştır?

- A) Osmanlı merkezi otoritesi bozulmuştur.
- B) Mısır sorunu uluslararası boyut kazanmıştır.
- C) Mısır sorunu tamamen ortadan kalkmıştır.
- D) Osmanlı isyanı tek başına bastırılmamıştır.

7. Sanayi İnkılabı ile Osmanlı Devleti'ne Avrupa'dan ucuz, kaliteli ve bol ürünlerin gelmeye başlaması ülkede aşağıdakilerden hangisine neden olmuştur?

- A) Osmanlı ekonomisinin olumsuz etkilenmesine
- B) Azınlık isyanlarının son bulmasına
- C) Küçük el tezgâhlarının sayısının artmasına
- D) Meşrutiyet yönetimine geçilmesine

8. Osmanlı Devleti Paris Antlaşması'nın imzalanmasından önce Avrupalı Devletlerin iç işlerine karışmasını önlemek amacıyla aşağıdakilerden hangisini ilan etmiştir?

- A) Senedi İttifak
- B) Meşrutiyet
- C) Kanun-i Esasi
- D) Islahat Fermanı

9. Osmanlı Devleti'nde ülkeyi padişahla birlikte bir meclisin yönetmesi, aşağıdakilerden hangisiyle gerçekleşmiştir?

- A) Senedi İttifak'ın kabulü
- B) Meşrutiyet'in ilanı
- C) Tanzimat Fermanı
- D) Duyun-u Umumiye'nin kurulması

10. 1878 Berlin Kongresi'nde, aşağıdaki antlaşmalardan hangisinin yeniden gözden geçirilmesine karar verilmiştir?

- A) Ayestefanos
- B) Paris
- C) Edirne
- D) Londra

11. Osmanlı Devleti topraklarında yaşayan ve milletisadık (sadık millet) olarak adlandırılan azınlık aşağıdakilerden hangisidir?

- A) Gürcüler
- B) Sırlar
- C) Ermeniler
- D) Rumlar

12. Osmanlı Devleti'nin I. Dünya Savaşı'na girmesinde,

- I. İngiltere'nin Osmanlı Devleti'ni kendi yanına çekmek istemesi
- II. Devlet yöneticilerinin savaşı Almanya'nın kazanacağına olan inançları
- III. Balkan Savaşlarında kaybedilen toprakların geri alınabileceği düşüncelerinden hangilerinin etkili olduğu söylenemez?

- A) Yalnız I
- B) I ve II.
- C) II ve III.
- D) I, II ve III.

13. Mustafa Kemal'in Anafartalar, Conkbayırı ve Arıburnu gibi cepheelerde büyük zaferler kazandığı, askeri dehasının ortaya çıktığı savaş aşağıdakilerden hangisidir?

- A) Trablusgarp
- B) Çanakkale
- C) Galiçya
- D) II. Balkan

14. Osmanlı Devleti'nde padişahın mutlak otoritesinin ilk defa sınırlandırıldığı belge aşağıdakilerden hangisidir?

- A) Tanzimat Fermanı
- B) Mecelle
- C) Islahat Fermanı
- D) Senedi İttifak

15. XIX. yüzyılda Osmanlı Devleti'nin iç ve dış meselelerini kendisinin çözmemesi dış politikada aşağıdakilerden hangisini benimsemesine neden olmuştur?

- A) Orduda ıslahatları hızlandırmak
- B) Azınlıkların haklarını genişletmek
- C) Avrupa Devletleri'ne karşı denge politikası uygulamak
- D) Yönetim alanında batılılaşma hareketlerine hız vermek

16. Aşağıdakilerden hangisi, Osmanlı Devleti'nin I. Dünya Savaşı'na girmesiyle ortaya çıkan sonuçlardan değildir?

- A) İtilaf Devletleri, savaştan yenilerek çıkmışlardır.
- B) Daha çok cephe açılmasıyla savaşın alanı genişlemiştir.
- C) Müttefiklerinden yardım alamayan Rusya'da Bolşevik İhtilali çıkmıştır.
- D) Savaşın süresi daha da uzamıştır.

17. Şiddetli kış ve salgın hastalıklar nedeniyle büyük kayıpların verildiği Sarıkamış harekâtında Türk ordusunun başında bulunan komutan aşağıdakilerden hangisidir?

- A) Ziya Paşa
- B) Enver Paşa
- C) Ahmet Cevdet Paşa
- D) Mithat Paşa

18. XIX. yüzyılda Osmanlı Devleti'nin genel nüfusu daha önceki yüzyıllara göre azalırken, Müslüman ve Türk nüfusun sayısı hızla artmıştır.

Bu durumun sebebi aşağıdakilerden hangisidir?

- A) Kapitülasyonların yaygınlaşması
- B) Yönetimde yaşanan bozulmalar
- C) Kaybedilen topraklardan gelen göçler
- D) Osmanlı Devleti'nin nüfus politikası

19. Osmanlı Devleti'nde azınlıkların ve yabancı devletlerin açtığı okullar TBMM'nin çıkardığı aşağıdaki hangi kanun ile Millî Eğitim Bakanlığına bağlanmıştır?

- A) Maarifiumumiye Nizamnamesi
- B) Mecelle
- C) Duyunuumumiye
- D) Tevhiditedrisat

20. Osmanlı Devleti'nde XIX. yüzyıl başlarında eğitim sistemi çağın ihtiyaçlarını karşılayamaz duruma gelmişti. II. Mahmut Dönemi'nde ilkokul eğitimi zorunlu hale getirildi.

Bu durum aşağıdakilerden hangisinin bir göstergesidir?

- A) Eğitim anlayışında değişiklik yaşandığının
- B) Geleneksel eğitimin benimsendiğinin
- C) Batı tarzı eğitime geçildiğinin
- D) Ekonomik ıslahatlar yapıldığının

(505) SEÇMELİ COĞRAFYA – 3

1. Genellikle minerallerden oluşan ve özellikle ilk çağlarda insanların av araç gereci, süs eşyası ve kap kakak olarak kullandığı madde nedir?

- A) Ağaç B) Demir
C) Kil D) Kayaç

2. Kalker, jips ve kaya tuzu hangi kayaç grubuna aittirlerdir?

- A) Kimyasal tortul kayaç
B) Fiziksel tortul kayaç
C) Başkalaşım kayacı
D) İç püskürük kayaç

3. İlk defa Alfred Wegener'in ileri sürdüğü ve günümüzde geliştirilerek kabul edilen teori aşağıdakilerden hangisidir?

- A) Kütle çekim teorisi
B) Kıtaların kayma teorisi
C) Canlılar ve iklim bağlantısı teorisi
D) Kayaçların aşınma - taşınma süreçleri teorisi

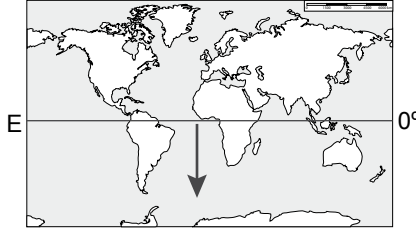
4. Sıcak su kaynaklarından elektrik üretiminde, turizm sektöründe, konut ve seraların ısıtılmasında yararlanır. Metne bakarak aşağıdakilerden hangisi söylenebilir?

- A) Ülkemiz sıcak su kaynaklarınınca zengindir.
B) Sıcak su kaynakları ekonomik öneme sahiptir.
C) Sıcak sular petrol kadar değerli kaynaklardır.
D) Sıcak su kaynaklarını işletmek pahalı bir yöntemdir.

5. Aşağıdakilerden hangisi su döngüsünün sonuçlarından biri değildir?

- A) Su kaynakları beslenir.
B) Hayatın devamlılığı sağlanır.
C) Levhaların hareketi gerçekleşir.
D) Aşınma taşınma faaliyetleri yaşanır.

6.



Yukarıda verilen haritada ok yönünde hareket edildiğinde;

- I. Balık çeşitliliği artar.
II. Deniz suyunun tuzluluğu azalır.
III. Denizlerin derinliği artar.
IV. Deniz suyu sıcaklığı azalır.

Durumlarından hangileri kesinlikle gerçekleşir?

- A) Yalnız III B) I ve III.
C) II ve IV. D) II, III ve IV.

7. Kuzeyde yer alan ülkelerde daha sık rastlanılan göl türü aşağıdakilerden hangisidir?

- A) Sirk gölleri
B) Karstik göller
C) Volkanik göller
D) Alüvyal set gölleri

8. Kayaçların uğradığı fiziksel (mekanik) ayrışmada kayaç aşağıdaki aşamaların hangisini yaşamaz?

- A) Çatlama B) Parçalanma
C) Ufalanma D) Erime

9. Orta Kuşağın karışık ormanlarıyla ilgili aşağıda verilen bilgilerden hangisi doğrudur?

- A) Batı Avrupa, Batı Kanada ve Güney Şili görüldüğü yerlerdendir.
B) Defne, teak, zakkum yaygın ağaç türlerini oluşturur.
C) Balta girmemiş ormanlar olarak adlandırılırlar.
D) Görüldüğü yerlerde yıllık yağış 2000 mm'yi aşar.

10. 20. yüzyıl öncesi yapılan nüfus sayımları ile elde edilen bilgilere fazla itibar edilmezken, günümüzde yapılan sayımlar modern olarak nitelendirilerek buradan çıkan sonuçlar ülkeler için önemli veriler sunmaktadır.

Bunun temel sebebi aşağıdakilerden hangisidir?

- A) Günümüz sayımlarında daha çok bölgeye ve insana ulaşılabilmesi
B) Eski sayımlarda sadece asker sayısının belirlenmesinin hedeflenmesi
C) Eski sayımlarda kayıtların uzman olmayan kişilerce değerlendirilmesi
D) Günümüz sayımlarında ülke ihtiyaçlarını tespit etmeye yönelik soruların yöneltilmesi

11.

YIL	DÜNYA NÜFUSU
1000	310 milyon
1700	610 milyon
1900	1.650 milyar
1950	2.520 milyar
2010	7.200 milyar

Yukarıdaki tabloya göre hangi yıllar arasındaki dönemde "nüfus patlaması" olarak nitelenen nüfus artışı belirgin şekilde yaşanmıştır?

- A) 1000 - 1700 B) 1700 - 1900
C) 1900 - 1950 D) 1950 - 2010

12. I. İş gücünün artması
II. Tüketimin artması
III. Göçlerin artması
IV. Yeni iş alanlarının açılması

Yukarıda verilenlerden hangileri nüfus artışının olumlu sonuçlarından bazılarıdır?

- A) Yalnız IV B) I ve II.
C) I ve IV. D) II ve III.

13. Nüfusun aşağıda verilen özelliklerinden hangisi Dünya'daki ülkelerin hemen hemen hepsinde birbirine yakın oranlardadır?

- A) Okur-yazar oranı
B) Kadın-erkek sayısı
C) Kentsel nüfus oranı
D) Nüfus artış hızları

14. Avrupa'da sanayileşme sürecini başlatarak seri üretime yol açan buluş aşağıdakilerden hangisidir?

- A) Telefonun icadı
B) Otomobilin icadı
C) Buhar makinesinin icadı
D) Matbaa makinesinin icadı

3. OTURUM

15. Aşağıdakilerden hangisi gelişmiş ülkelerin bir özelliğidir?

- A) Nüfus artış hızları yüksektir.
- B) Kentsel nüfus miktarı çoktur.
- C) Yaşam standartları düşüktür.
- D) Tarım sektöründe istihdam yüksektir.

16. Türkiye'nin coğrafi konumuyla ilgili aşağıda verilen bilgilerden hangisi yanlıştır?

- A) Orta kuşakta yer almaktadır.
- B) Ekvator çizgisinin kuzeyindedir.
- C) Greenwich'in doğusundadır.
- D) 26-45° Batı meridyenleri arasındadır.

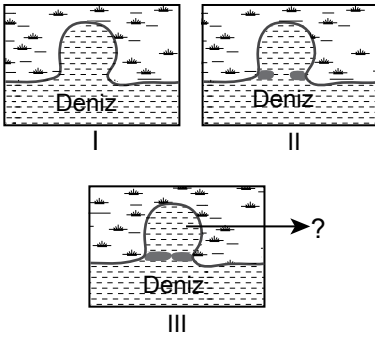
17. Aşağıdakilerden hangisi Paleozoikte oluşmuş masif adı verilen arazilerin ortak özelliklerindendir?

- A) Metamorfizmaya uğramaları
- B) Deprem riski az olan yerler olmaları
- C) Genç oluşumlu kütlelerden oluşmaları
- D) Üzerinde farklı bitki türlerinin gelişmesi

18. Aşağıdakilerden hangisi Türkiye'nin karstik ovalarındandır?

- A) Düzce
- B) Bafra
- C) Acıpayam
- D) Malazgirt

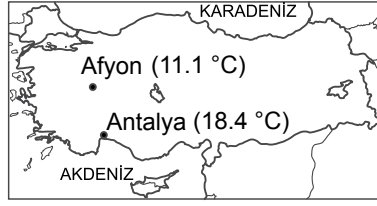
19. Aşağıda kıyı okunun ilerleyerek koyun önünü kapatması aşamaları gösterilmiştir.



Buna göre üçüncü görselde soru işareti ile son hâli gösterilen kıyı şeklinin adı nedir?

- A) Lagün
- B) Kıyı kordonu
- C) Yalıyar
- D) Sirk gölü

20.



Haritada iki merkezin yıllık ortalama sıcaklık değerleri verilmiştir.

Bu iki merkezin arasındaki sıcaklık farkının oluşmasında aşağıdakilerden hangisinin etkisi daha azdır?

- A) Bakının
- B) Yükselti farkının
- C) Dağların uzanışının
- D) Çevresindeki denizlerin

(506) SEÇMELİ COĞRAFYA – 4

1. Kahverengi orman topraklarının koyu renkli olmasının sebebi aşağıdakilerden hangisidir?

- A) Yağışlarla fazlaca yıkanması
- B) Üzerinde çay ve kivi yetiştirilmesi
- C) Organik maddece zengin olmaları
- D) Anadolu'nun kuzeyinde yaygın olması

2. Çiftçi Hasan Bey sulama yaptığı, gübre kullandığı halde tarlasındaki verim yeterince artmıyordu. Son olarak tarlalarından aldığı toprak numunelerini laboratuvarında analiz ettirdi, toprağının her tarım bitkisi için uygun olmadığını öğrendi.

Metne bakarak Çiftçi Hasan Bey için aşağıdakilerden hangisi söylenemez?

- A) Bilinçli bir çiftçi olduğu
- B) Fazla üretim yapmak istediği
- C) Bilimsel çalışmalara önem verdiği
- D) Tarlasında tek tür ürün yetiştirdiği

3. I. Akarsu rejimlerinin düzensiz olması
II. Akarsu ağlarının sık olması
III. Aktif tektonik yapıya sahip olması
IV. Arazisinin dağlık olması
V. Yüz ölçümünün büyük olması

Yukarıda verilenlerden hangileri Türkiye'nin hidroelektrik potansiyelinin yüksek olmasının sebeplerindendir?

- A) Yalnız II
- B) I ve III.
- C) II, IV ve V.
- D) I, II, III, IV ve V.

4.



Haritada taranarak gösterilen alan içinde aşağıdaki göllerden hangisi yer almaz?

- A) İznik
- B) Erçek
- C) Sapanca
- D) Ulubat

5. Aşağıdakilerden hangisi Türkiye'de nüfus ve yerleşmenin dağılımını etkileyen beşeri faktördür?

- A) Ulaşım
- B) Eğitim
- C) Sıcaklık
- D) Su kaynakları

6. Kırsal yerleşmeler ziraat ve hayvancılığın yapıldığı nüfus yoğunluğunun düşük ve genellikle ulaşım ağının yetersiz olduğu sahalardır.

Buna göre kırsal yerleşmeler için aşağıdaki çıkarımlardan hangisi yapılamaz?

- A) Ticaret hayatı sınırlıdır.
- B) Meslek çeşitliliği azdır.
- C) Su kaynakları yetersizdir.
- D) Enerji tüketimleri düşüktür.

7. Ulaşım şehirleri için aşağıdakilerden hangisi her zaman söylenemez?

- A) Nüfus miktarları yüksektir.
- B) Coğrafi konumları uygundur.
- C) Sanayi ve ticaret gelişmiştir.
- D) Doğal ve tarihi güzelliklere sahiptir.

8. Türkiye nüfusunun en önemli özelliği olan genç ve dinamik yapısı bu özelliğini her yıl yavaş yavaş kaybederek yaşlanma eğilimine girmektedir.

Bunun sebebi aşağıdakilerden hangisidir?

- A) Nüfus artış hızının düşmesi
- B) Sağlık hizmetlerinin gelişmesi
- C) Kentsel nüfus miktarının artması
- D) Hizmet sektörünün hızlı büyümesi

9. 2010 yılı nüfus istatistiklerine göre Türkiye'de hizmet sektöründe çalışan oranı (%) aşağıdakilerden hangisine daha yakındır?

- A) 20
- B) 35
- C) 50
- D) 75

3. OTURUM

10. Nüfusun aşağıdaki özelliklerinden hangisi bir ülkenin gelişmişlik düzeyi hakkında bilgi vermez?

- A) Eğitim durumu
- B) Kadın - erkek oranı
- C) Kentsel nüfus oranı
- D) Çalışanların sektörel dağılımı

11. Aşağıdakilerden hangisi yoğun göç veren illerimizdendir?

- A) Mersin
- B) Batman
- C) Kocaeli
- D) Bursa

12. Avrupalıları 15. yüzyıldan itibaren coğrafi keşifler için seyahatlere yönlendiren temel unsur aşağıdakilerden hangisidir?

- A) Avrupa nüfusunun hızlı artışı
- B) Avrupa ülkeleri arasındaki savaşlar
- C) Asya ve Afrika'nın sahip olduğu zenginlikler
- D) Avrupa'da görülen bulaşıcı hastalıklar

13. Colomb, aşağıdakilerden hangisini ilk kez gerçekleştiren insan olarak bu denizcilik başarısı ile Dünya tarihine geçmiştir?

- A) Dünya'nın yuvarlaklığını ispatlaması
- B) Ümit Burnu'nu geçmesi
- C) Dünya etrafını dolaşması
- D) Amerika kıtasına ulaşması

14. Kâğıdı 105 yılında ilk kullanan millet aşağıdakilerden hangisidir?

- A) Çinliler
- B) Yunanlar
- C) Sümerler
- D) Araplar

15.



Verilen dünya haritasında daire içinde gösterilen kanalın adı nedir?

- A) Panama
- B) Süveyş
- C) Kiel
- D) Korint

16. Doğal afetler, insanın doğal dengeyi bozduğu ölçüde artarak daha büyük tahribatlara ve can kayıplarına neden olmaktadır.

Buna göre aşağıdaki afetlerden hangisinin oluşumuyla insanın bu davranışı arasında bağlantı yoktur?

- A) Heyelan
- B) Deprem
- C) Kuraklık
- D) Sel ve taşkın

17. Aşağıdakilerden hangisi kuraklığın sonuçlarından değildir?

- A) Kıtık tehlikesinin artması
- B) Canlıların zarar görmesi
- C) Yeraltı sularının artması
- D) İnsanların göçe zorlanması

18. Japonca bir terim olan tsunami kelimesinin Türkçe karşılığı aşağıdakilerden hangisidir?

- A) Kasırga
- B) Deprem
- C) Taşkın
- D) Büyük dalga

19. Aşağıdakilerden hangisi erozyon oluşmasının sebeplerinden biridir?

- A) Tarlaların yerleşime kapatılması
- B) Doğal bitki örtüsünün korunması
- C) Yer şekillerinin sade ve düz olması
- D) Tarım arazilerinin nadasa bırakılması

20. Aşağıdaki şehirlerimizden hangisi Güneydoğu Anadolu Deprem Kuşağı'nın etkisi altındadır?

- A) Gerede
- B) Malatya
- C) Amasya
- D) Kütahya

(533) HZ. MUHAMMED'İN HAY. – 3

1. Aşağıdakilerden hangisi Hz. Peygamber'in doğduğu çevrenin özellikleri arasında sayılamaz?

- A) Kabilecilik anlayışı hâkimdi.
- B) Aileye önem verilirdi.
- C) Kan davaları yaygındı.
- D) Ticaret gelişmişti.

2. Kur'an'da belirtildiğine göre puta tapanlar, " ... Biz bunlara sadece bizi Allah'a daha çok yaklaştırsınlar diye kulluk ediyoruz..." diyorlardı.
(Zümer suresi, 3.ayet)

Metinde hakkında bilgi verilen kişilere ne ad verilmiştir?

- A) Müşrik
- B) Münafık
- C) Kafir
- D) Fâsık

3. "Ben babam İbrahim'in duası, annem Âmine'nin rüyası ve kardeşim İsa'nın müjdesiyim." diyen peygamber aşağıdakilerden hangisidir?

- A) Hz. İsmail
- B) Hz. İdris
- C) Hz. Süleyman
- D) Hz. Muhammed

4. Yemen valisi Ebrehe, Kâbe'yi ziyarette giden insanları Yemen'e çekmek için Kâbe'ye alternatif görkemli bir mabet yaptırdı. Fakat kimse bu mabede ilgi göstermedi. Buna kızan Ebrehe, Kâbe'yi yıkmak için büyük bir ordu ile harekete geçti.

Hz. Muhammed'in (sav.) doğduğu sene gerçekleşen bu olaya ne ad verilir?

- A) Fil olayı
- B) Hüzün yılı
- C) Ebabil vakası
- D) Mabedin yıkılışı

5. Hz. Muhammed'in (sav.) aşağıdaki yakınlarından hangisi, o doğmadan önce vefat etmiştir?

- A) Hz. Hatice
- B) Abdulmuttalip
- C) Ebu Talip
- D) Abdullah

3. OTURUM

6. Allah'a yemin ederim ki ben sizin Allah'tan en çok korkanınız ve ona en saygılı olanınızım. Fakat ben bazen oruç tutuyorum, bazen tutmuyorum. Gece hem namaz kılıyor hem de uyuyorum. Ve ben evliyim, eşim, ailem var. Bunlar benim sünnetimdir.

Bu hadiste, aşağıdakilerden hangisi vurgulanmaktadır?

- A) Hz. Muhammed'in (sav.) Allah'ın en iyi kulu olduğu
- B) Hz. Muhammed'in (sav.) ibadetlerini bazen aksattığı
- C) İbadetlerde aşırılığa kaçmamak gerektiği
- D) Evlilik ve ailenin önemli olduğu

7. "Yaratan Rabbi'nin adıyla oku! O, insanı aşılansmış bir yumurtadan yarattı. Oku! İnsana bilmediklerini belleten, kalemle (yazmayı) öğreten Rabbi'nin, en büyük kerem sahibidir." (Alak suresi, 1-5 ayetler)

Bu ayetlerden aşağıdaki kavramlardan hangisine ulaşılamaz?

- A) İlim
- B) Yaratılış
- C) Allah
- D) Ahiret

8. Peygamberimizin amcası Ebu Talip ve eşi Hz. Hatice'nin vefat ettiği yıla ne denir?

- A) Rihlet yılı
- B) Ayrılık senesi
- C) Vefat senesi
- D) Hüzün yılı

9. Aşağıdakilerden hangisi Hz. Peygamber'in toplum sağlığını korumaya yönelik uygulamalarından biridir?

- A) Sağlıklı ve huzurlu olmayı Allah'ın nimetleri arasında sayması
- B) Seferde çıktığında yanında hastabakıcılar da bulundurması
- C) Sağlıklı olmanın çok mala sahip olmaktan daha önemli olduğunu söylemesi
- D) Allah'tan dâima sağlıklı olmayı dilemesi

10. Kişi, yemek yiyeyeceği zaman mide-sinin üçte birini yemeğe, üçte birini içmeye ve üçte birini nefes alıp vermeye ayırmalıdır.

Bu hadiste, özellikle aşağıdakilerden hangisi tavsiye edilmektedir?

- A) İyice acıkmadan yemek yenilmemesi
- B) Sofradan tam doymadan kalkılması
- C) Aşırı yemek ve içmekten uzak durulması
- D) Ayakta bir şeyler yenip içilmemesi

11. Müminin durumu gıpta ve hayranlığına değer. Çünkü onun her hâli kendisi için bir hayır sebebidir. Böylesi bir özellik sadece müminde vardır. Sevinecek olsa şükreder, bu onun için hayır olur. Başına bir sıkıntı gelecek olsa sabreder, bu da onun için hayır olur.

Bu hadiste Müminin aşağıdaki özelliklerinden hangisi vurgulanmaktadır?

- A) Yaratılanı yaratandan ötürü hoş görmesi
- B) Bollukta şükredip darlıkta sabretmesi
- C) İbadetlerini huşu içinde yapması
- D) İşlerinde orta yolu tercih etmesi

12. Kur'an-ı Kerim'de musibetler karşısında sabırla örnek olduğu ve daima Allah'a yöneldiği belirtilerek övülen peygamber aşağıdakilerden hangisidir?

- A) Hz. Yunus
- B) Hz. Musa
- C) Hz. İsa
- D) Hz. Eyüp

13. "...Kendi ellerinizle kendinizi tehlikeye atmayın..." (Bakara suresi, 195.ayet)

Bu ayet sağlık konusundaki aşağıdaki tavsiyelerden hangisi ile doğrudan ilişkili değildir?

- A) Hasta olduğunda tedavi olmak
- B) Hasta olan kişilere ziyarette bulunmak
- C) Sağlığa zarar veren maddelerden sakınmak
- D) Salgın hastalık olan yere girerken tedbir almak

14. Halk içinde muteber bir nesne yok devlet gibi
Olmaya devlet cihanda bir nefes sıhhat gibi

Bu söz aşağıdaki kavramlardan hangisinin önemini vurgulamaktadır?

- A) Saltanat
- B) Muhabbet
- C) Sağlık
- D) Huzur

15. Kim Allah'tan başka ilah olmadığına ve Muhammed'in Allah'ın resulü olduğuna şahitlik ederse Allah ona cehennemi haram kılar.

Bu hadiste dikkat çekilen kavram aşağıdakilerden hangisidir?

- A) Tevhit
- B) Cennet
- C) Merhamet
- D) İbadet

16. Dostunu severken ölçülü sev, günün birinde senin düşmanın olabilir. Düşmana da ölçülü davran çünkü günün birinde senin dostun olabilir.

Bu hadiste dikkat çekilen kavram aşağıdakilerden hangisidir?

- A) Adalet
- B) Denge
- C) Kardeşlik
- D) Kolaylık

17. • Cahiliye dönemi savaşlarındandır.
• Yasak savaşlar anlamına gelir.
• Zilkade, zilhicce, muharrem ve re-cep aylarında yapılmışlardır.

Hakkında bilgi verilen savaşlar aşağıdakilerden hangisiyle isimlendirilir?

- A) Gazve
- B) Seriyet
- C) Ficar
- D) Usre

18. Mekke'de haksızlığa uğrayan ve kimsesi olmadığı için ezilen insanların haklarını savunmak amacıyla aşağıdakilerden hangisi kurulmuştur?

- A) Hilf-u'l-Fudul
- B) Dâru'n-Nedve
- C) Dâru'l-Erkâm
- D) Beytu'l-Yetim

19. Aşağıdakilerden hangisi insan duygularındaki aşırılığa örnek verilebilecek kavramlardan biri değildir?

- A) Saldırganlık
- B) Tevazu
- C) Tembellik
- D) Cimrilik

20. Aşağıdaki hadislerden hangisi harcamalarda dengeli ve tutumlu olma konusuyla ilişkilendirilebilir?

- A) İktisat eden fakirlik çekmez.
- B) Veren el alan elden hayırlıdır.
- C) İnsanların en hayırlısı insanlara faydalı olanıdır.
- D) Hiç kimse kendi kazancından daha hayırlı bir lokma yememiştir.

3. OTURUM

(534) HZ. MUHAMMED'İN HAY. – 4

1. "Dinde zorlama yoktur, artık hak ile batıl iyice ayrılmıştır..."
(Bakara suresi, 256.ayet)
"De ki hakikat Rabbinizdendir. Artık dileyen inansın, dileyen inkâr etsin..."
(Kehf suresi, 29.ayet)
Bu ayetlerin ortak vurgusu aşağıdakilerden hangisidir?
- A) İnanç seçme özgürlüğü
B) Hak ile batılın ayrıldığı
C) Hakikatin Allah'tan olduğu
D) İnananların kurtuluşa ereceği
2. Ebu Hureyre, Hz. Peygamber hakkında; "Ben Allah Resulü'nden daha fazla arkadaşlarıyla istişare eden birini görmedim." demiştir.
Ebu Hureyre, bu sözle Hz. Peygamberin aşağıdaki özelliklerinden hangisini ifade etmiştir?
- A) Eğitim ve öğretime önem verdiğini
B) İnsanlara karşı hoşgörülü olduğunu
C) Farklı düşüncelere önem verdiğini
D) Kimsesiz ve düşkünleri koruduğunu
3. **İslam; hırsızlık, faiz ve rüşvet gibi davranışları yasaklayarak aşağıdaki haklardan hangisini güvence altına almayı amaçlamıştır?**
- A) İnanç
B) Düşünce
C) İbadet
D) Mülkiyet
4. Bir Müslümanın izinsiz olarak bir başkasının evinin içini gözetlemesi helal değildir. Böyle yapan, günah işlemiş olur.
Bu hadiste, aşağıdaki hak ve özgürlüklerden hangisine işaret edilmektedir?
- A) İnanç ve ibadet
B) Özel hayatın gizliliği
C) Düşünce ve ifade
D) Mülkiyet
5. Allah'a ve ahiret gününe iman eden kimse ya hayır konuşsun ya da sussun.
Bu hadis aşağıdaki özgürlüklerin hangisinde uyulması gereken tutumu tavsiye etmektedir?
- A) Söz ve ifadede
B) İnanç ve ibadette
C) Sağlık ve yaşamda
D) Özel hayatın gizliliğinde

6. Bir yerde bulaşıcı hastalık görürseniz, oraya girmeyiniz. Bulaşıcı hastalık bulunan bir yerdeyseniz oradan çıkmayınız.
Bu hadis ile aşağıdaki haklardan hangisinin korunması amaçlanmıştır?
- A) Mülkiyet
B) İnanç
C) Sağlık
D) Seyahat
7. Hz. Peygamber bir gün sahabeleriyle otururken yanlarından bir cenaze geçtiğini görünce ayağa kalktı. Yanındakiler, "Ey Allah'ın Resulü! Bu bir Yahudi cenazesidir." dediler. Bunun üzerine Hz. Peygamber "O bir insan değil midir?" dedi
Bu örnekten aşağıdaki sonuçlardan hangisi çıkarılamaz?
- A) Hz. Peygamber'in inançlara saygılı olduğuna
B) Hz. Peygamber'in insanlara değer verdiğine
C) İnsanın cenazesinin de saygıya hak ettiğine
D) Ölümün herkesi eşit hale getirdiğine
8. **Hz. Peygamber'in, kabileciliğin doğurduğu kin ve öfke duygularını ortadan kaldırarak yerine kardeşlik esasına dayanan bir toplum inşa etme hedefi, aşağıdaki yönetim ilkelerinden hangisiyle ilişkilidir?**
- A) İstişare etmek
B) Toplumsal birlik ve beraberlik
C) Ehliyet ve liyakate önem vermek
D) Halkın yönetime katılımını sağlamak
9. Yüce Allah, peygamberlerini içinde yaşadıkları topluma doğru yolu göstermekle görevlendirmiştir. Bununla beraber bazılarında, içinde yaşadıkları topluma hükümlerlik etme görevi de verilmiştir.
Aşağıdakilerden hangisi bu peygamberlerden biridir?
- A) Hz. Süleyman
B) Hz. Yunus
C) Hz. Yahya
D) Hz. İbrahim
10. **Aşağıdakilerden hangisi Hz. Peygamber'in yönetim ilkeleri arasında yer almaz?**
- A) İstişare etmek
B) Yakınlarına ayrıcalık tanımak
C) Ehliyet ve liyakate öncelik vermek
D) Halkın yönetime katılımını sağlamak

11. Kadın ve erkek birbirinin tamamlayıcısı ve destekçisidir. Nitekim Hz. Peygamber, kadın ve erkeği bir bütünün birbirini tamamlayan parçaları olarak görmüştür.
Parçada kadın ve erkek arasında olması gereken kavramlardan hangisine vurgu yapılmıştır?
- A) Eşitlik
B) Sevgi
C) Merhamet
D) Saygı
12. **Aşağıdakilerden hangisi Hz. Peygamber'in aile içindeki davranışları arasında yer almaz?**
- A) Ev işlerine yardım etmesi
B) Şefkat ve merhametli olması
C) Eşi ve çocuklarıyla şakalaşması
D) Kararlarını tek başına alması
13. Hz. Peygamber, yönetimindeki yoksulları ve kimsesizleri daima gözetirdi. Hiç kimse dilenmeye ve açlıktan ölmeye terk edilmezdi. O, zenginlerin zekâtlarını devlet eliyle toplayarak fakirlere dağıtırdı. Ayrıca ihtiyaç sahiplerine yardım etmeyi, sadaka vermeyi ve dayanışmayı teşvik ederdi. Birbirini seven ve birbiriyle paylaşan bir toplum oluşturmayı hedeflerdi.
Buna göre Hz. Peygamber'in aşağıdakilerden hangisini hedeflediği söylenir?
- A) Sosyal adaletin sağlanmasını
B) Eğitim-öğretimin geliştirilmesini
C) Yönetime ehil kimselerin getirilmesini
D) Devlet kararlarının istişare ile alınmasını
14. **İslam'ın ilk yıllarında halkın yöneticilerine bağlılığını bildirmesi ve hukuktan ayrılmadığı sürece itaat edeceğine söz vermesi aşağıdaki kavramlardan hangisiyle ifade edilir?**
- A) İstişare
B) Mukâvele
C) Biat
D) Riâyet
15. Kenar-ı Dicle'de bir kurt aşırısı koyunu
Gelir de adl-i İlahi sorar Ömer'den onu
Bu dizelerde, bir yöneticide bulunması gereken niteliklerden hangisi vurgulanmaktadır?
- A) Ehliyet
B) Merhamet
C) Sorumluluk
D) Eşitlik

3. OTURUM

16. İnsanların en hayırlısı, insanlara faydalı olandır.

Bu hadisi kendisine ilke edinen bir yöneticiden aşağıdaki davranışlardan hangisi beklenmez?

- A) Yetkisini halka hizmet için kullanması
- B) Çalışanları arasında taraflı davranması
- C) Yoksul, yetim ve kimsesizleri gözetmesi
- D) Kamu menfaatinin kendi menfaatinin üstün tutulması

17. Onların işleri aralarında danışma iledir.

(Şûrâ suresi, 38.ayet)

Bu ayete göre bir yöneticinin aşağıdakilerden hangisine göre hareket etmesi gerekmektedir?

- A) Yapılacak işleri ehline vermesi
- B) Yetki vereceği kimsede liyakat araması
- C) Çalışanlar arasında adaletli davranması
- D) Karar vermeden önce istişare etmesi

18. Ey İnsanlar! Allah'a karşı gelmekten sakının, şeytana aldanmayın. Ben Abdullah'ın oğlu Muhammed'im, Allah'ın kulu ve elçisiyim. Allah'a yemin olsun ki beni Allah'ın bana verdiği mertebenin üstüne çıkartmanızı asla istemem.

Hz. Peygamber'in bu hadis ile insanları uyardığı asıl konu aşağıdakilerden hangisidir?

- A) Allah'a isyan etmemek
- B) Kendisine saygı ve övgüde aşırıya kaçmamak
- C) Kul olduklarını hatırlayıp büyülenmemek
- D) Kendilerini Hz. Peygamber'den üstün görmemek

19. "Allah size, mutlaka emanetleri ehil olanlara vermenizi ve insanlar arasında hükmettiğiniz zaman adaletle hükmetmenizi emreder."

(Nisa suresi, 58.ayet)

"... Allah'a yemin olsun ki kızım Fatıma dahi hırsızlık yapsaydı ona ceza verirdim."

(Hadisi şerif)

Bu ayet ve hadiste vurgulanan ortak ilke aşağıdakilerden hangisidir?

- A) Sadakat
- B) Liyakat
- C) Ehliyet
- D) Adalet

20. Kur'an-ı Kerim'de bir iffet örneği olarak övgüyle bahsedilen kadın aşağıdakilerden hangisidir?

- A) Hz. Havva
- B) Hz. Meryem
- C) Hz. Asiye
- D) Hz. Hacer

(542) TÜRK DİLİ VE ED. – 2

1. (I) Batılı anlamda tiyatro türü, Türk edebiyatına Cumhuriyet Dönemi'nde girmiştir. (II) Bu döneme kadar Türk edebiyatında Karagöz, orta oyunu, meddah hikâyeleri, köy seyirlik oyunları gibi türler tiyatro türünün yerini tutmuştur. (III) Şinasi'nin "Şair Evlenmesi" adlı eseri, Batılı anlamda tiyatronun edebiyatımızdaki ilk örneği kabul edilir. (IV) Daha sonra Namık Kemal, Ahmet Mithat Efendi, Abdülhak Hamit Tarhan, Ahmet Vefik Paşa gibi yazarlar tiyatro türünün gelişimine katkı sağlamışlardır.

Bu parçada numaralanmış cümlelerin hangisinde bilgi yanlış yapılmıştır?

- A) I.
- B) II.
- C) III.
- D) IV.

2. • Eserin konusuna göre sahnede kullanılan eşyaların toplu adıdır.
• Oyunun, seyirciyle buluştuğu ilk gösterimine verilen addır.
• Oyuncuların birbirine söyledikleri sözlerden her birine verilen addır.

Aşağıdaki tiyatro terimlerinden hangisinin tanımı yukarıda verilmemiştir?

- A) Dekor
- B) Kostüm
- C) Prömiyer
- D) Replik

3. • Dramlarda hayatın tüm gerçeklerinin yansıtılması amaçlanır.
• İnsan karakterinin gülünç ve aksak yönlerini ele alan oyunlar "karakter komedisi" olarak adlandırılır.
• Trajedilerde kahramanlar genellikle günlük hayatta karşılaşabileceğimiz, sıradan kimselerdir.

Bu cümleler doğru-yanlış olarak değerlendirildiğinde sıralama aşağıdakilerden hangisi olur?

- A) D – Y – Y
- B) Y – D – D
- C) D – D – Y
- D) Y – Y – D

4. Edebiyat ve sinema birer sanat dalı ve iletişim aracıdır. Edebiyat ve sinema tarih boyunca insanları kültür, bilgi, eğlence ve estetik zevk bakımından geliştirme işlevini de yüklenmiştir. Edebiyat, dille yapılan bir sanat etkinliği iken sinema dille ortaya çıkarılan ürünün görüntüye dönüştürülmesidir. Anlatmaya bağlı edebiyat metninin temelinde olan kurgu, sinema ile edebiyatın ortak bağıdır. Özellikle romanlar, sinemanın edebiyattan yararlandığı en önemli kaynaktır. Bu çerçevede dünya klasiklerinin neredeyse tümü sinema filmi hâline getirilmiştir.

Bu parçadan aşağıdakilerin hangisi çıkarılamaz?

- A) Edebiyat ürünleri, sinemanın ana malzemesi olmaya uygundur.
- B) Edebiyat ve sinemanın ortak işlevi vardır.
- C) Sinemadaki görsellik, edebiyata göre daha fazladır.
- D) Romanların yazılma amacı, sinemaya uyarlanmaktır.

5. Bir fare ile kurbağa bir ırmak kenarında karşılaşmış arkadaş olmuşlar. Kendilerine uygun bir vakit tayin edip her sabah köşelerinden çıkarak gelir, ırmak kenarında buluşurlar. Gönülleri bu buluşmanın şevkiyle ferahlanmış, birbirlerine hikâyeler anlatıp eğlenmişler.

Bu parça aşağıdaki türlerin hangisine örnektir?

- A) Tiyatroya
- B) Fabla
- C) Romana
- D) Halk hikâyesine

6. I. Genellikle öğrenilen geçmiş zaman veya geniş zamanın rivayeti ile anlatılır.
II. Tüm masalların kaynağı bellidir.
III. Olumlu ve olumsuz değerlerin çatışması üzerine kuruludur.
IV. Olaylar günlük yaşama uygun, gerçekçi bir şekilde verilir.

Numaralanmış özelliklerden hangileri masal için söylenemez?

- A) I ve II.
- B) I ve IV.
- C) II ve III.
- D) II ve IV.

7. **Aşağıdaki sanatçılardan hangisi masal derleyiciliği yapmıştır?**

- A) Eflatun Cem Güney
- B) Yusuf Ziya Ortaç
- C) Abdülhak Hamit Tarhan
- D) Reşat Nuri Güntekin

3. OTURUM

8. Masalın giriş tekerlemesi ile başlayan bölümüdür. Bu bölümde bir tekerleme ile dinleyici veya okurlar masalın dünyasına hazırlanır.

Bu parçada sözü edilen masal bölümü aşağıdakilerden hangisidir?

- A) Serim B) Döşeme
C) Düğüm D) Çözüm

9. Aşağıdakilerden hangisi etkili dinlemenin ilkelerinden değildir?

- A) Dinleme öncesinde konuşmacı veya konuyla ilgili genel bir bilgi edinmek
B) Konuşmacı ve konuya ön yargısız yaklaşmak
C) Dinlenenlerle ilgili önemli noktaları not almak
D) Konuşmacının eksik ve hatalarını anında düzeltmek

10. • Gerçekler, yaşananlar değiştirilmeden aktarılır.
• Konuşma diline yakın, samimi bir dil kullanılır.
• Yaşanan olay, gözlem ve izlenimlerin günü gününe yazılması ile oluşur.

Bu özellikler aşağıdaki türlerin hangisine aittir?

- A) Anı B) Hikâye
C) Mektup D) Günlük

11. Dinleyicinin dinlediklerini yorumlaması ve bunlardan yeni fikirler üretmesi ile gerçekleşen dinleme türü aşağıdakilerden hangisidir?

- A) Yaratıcı B) Katılımlı
C) Seçici D) Katılımsız

12. Mektup yazışmaları bilgisayar ve İnternet teknolojisi ile şekil değiştirmiş, mektubun yerini e-posta almıştır. Ancak toplum hayatında geniş yer tutan e-posta, henüz bir edebî tür olarak kabul görmemektedir.

Aşağıdakilerden hangisi bu durumun nedenleri arasında sayılamaz?

- A) Anlatımın mümkün olduğunca kısa ve net olması
B) Sanatsal bir üslubunun olmaması
C) Günümüzde yaygın olarak kullanılması
D) Başkalarının okuması için yayımlanmamış olması

13. "Günlük" türü eskiden "- - -" sözcüğü ile karşılanırdı. Günümüzde günlükleri bir araya getiren defter veya kitaplar ise "- - -" olarak adlandırılır.

Bu parçada boş bırakılan yerlere aşağıdakilerden hangileri sırasıyla getirilmelidir?

- A) seyahatname – portre
B) ruzname – günce
C) vakayiname – anı
D) şehrengiz – postmodern

14. Panel ile ilgili aşağıdakilerden hangisi söylenemez?

- A) Başkan tartışmanın sağlıklı bir şekilde yürütülmesini sağlar.
B) Konuşmacı sayısı en fazla 6 ile sınırlandırılmıştır.
C) Alanında uzman konuşmacıların her biri konunun farklı bir yönünü ele alır.
D) Tartışmanın düzgün yürütülmesi için dinleyicilere kapalı bir ortamda gerçekleştirilir.

15. Tiyatro eserleri sahnede oynanmadan hayata kavuşmadığı için her yazar yaşadığı dönemin söz varlığını kullanmak zorundadır. Zira sahnede telaffuz edilen her kelime, seyirciler tarafından anlaşılmalıdır. Anlaşılmayan eserler ölür gider. Tanzimat'tan sonra yazılan eserlerimizde maalesef bu durum anlaşılmamış ve birkaç eserin dışında çoğu yitip gitmiştir.

Bu parçada tiyatro ile ilgili anlatılmak istenen aşağıdakilerden hangisidir?

- A) Kullanılan dil halkın kullandığı dile uzak düşmemelidir.
B) Tanzimat Dönemi'nden sonra bu türde eser verilmemiştir.
C) Bu türdeki eserlerin kalıcılığı yakalaması oldukça zordur.
D) Sahnelenmek için yazılan tek tür tiyatrodur.

16. Önceden belirlenmiş ve tartışmaya açık bir konunun farklı görüşlere sahip 3 ila 5 uzman tarafından çeşitli yönleriyle topluluk önünde tartışıldığı konuşmalardır.

Bu cümlede tanımı verilen tartışma türü aşağıdakilerden hangisidir?

- A) Münazara B) Konferans
C) Açık oturum D) Sempozyum

17. I. Ciddi ve bilimsel bir dille oluşturulur.
II. Olay, gözlem ve izlenimler günü gününe yazılır.
III. Yazar, kişiliğini ve görüşlerini yazılarına yansıtmaz.
IV. Herhangi bir konu sınırlaması yoktur.

"Günlük" türü ile ilgili verilen cümlelerin hangilerinde bilgi yanlışlığı vardır?

- A) I ve II. B) I ve III.
C) II ve IV. D) III ve IV.

18. Türküler ve mektuplardan söz etmek kaçınılmaz olarak ayrılıktan ve hasretten söz etmek olacaktır. Sadece şiirlerin, edebiyat ve sanat eserlerinin değil, türkülerin ve mektubun da önemli temasıdır ayrılık. Taşındıkları olumsuz çağırışma ve içerdikleri acılı yaşam biçimine karşın oluşturucu bir güçtür. Ayrılık olmasaydı türkülerin de mektupların da birçoğu olmayacaktı kuşkusuz.

Bu parçada anlatılmak istenen aşağıdakilerden hangisidir?

- A) Türkü ve mektup birer edebî türdür.
B) Türkü ve mektup birbirini etkileyen türlerdir.
C) Türkü ve mektubun kaynağı kavuşma isteğidir.
D) Her türkü ve mektubun acıklı bir hikâyesi vardır.

19. Edebiyatımızın önemli oyun yazarlarındandır. TRT İstanbul Radyosu Tiyatro Bölümü'nde dramaturg olarak çalışan yazar, konusunu Osmanlı tarihinden alan ve televizyona da uyarlanan oyunlarıyla tanınmıştır. "Deli İbrahim", "IV. Murat", "Genç Osman" ve "Keziban" oyunlarından bazılarıdır.

Bu parçada hakkında bilgi verilen sanatçı aşağıdakilerden hangisidir?

- A) Turan Oflazoğlu
B) Refik Erduran
C) Orhan Asena
D) Turgut Özakman

20. Sinemada film çekimine uygun olarak ve belirli yöntemlerle hazırlanan, kurgulanmış metinler kullanılır. Bu metinleri yazan, alanında uzmanlaşmış kişilerdir. Bu metinler oldukça önemlidir çünkü bir filmin ilk aşamasıdır. Bu metinlerde olayların geçtiği yer, zaman unsurları belirtilir; kullanılacak yer değişimleri açıkça yazılır.

Bu parçada aşağıdaki sinema terimlerinden hangisine ait bir ayrım-tıya yer verilmemiştir?

- A) Senaryo B) Sahne
C) Senarist D) Aktris

3. OTURUM

(608) DEM. VE İNSAN HAK. – 2

1. İnsan Haklarının evrensel düzeyde korunması amacıyla oluşturulan Cemiyet-i Akvam resmi olarak hangi yıl kurulmuştur?

- A) 1920 B) 1945
C) 1950 D) 1966

2. I. Soru
II. Genel görüşme
III. Meclis araştırması

Yukarıdakilerden hangileri yasanın idare üzerindeki denetim yollarındandır?

- A) Yalnız I B) I ve II.
C) II ve III. D) I, II ve III.

3. Aşağıdakilerden hangisi ulusal düzeyde faaliyet gösteren sivil toplum kuruluşlarından değildir?

- A) Türkiye İnsan Hakları Vakfı
B) İnsan Hakları Derneği
C) Green Peace
D) Türk Demokrasi Vakfı

4. • 1863'te İsviçre'de kurulmuştur.
• Savaşların sebep olduğu insan hakları ihlallerini ortadan kaldırmaya çalışır.

Yukarıda özellikleri verilen sivil toplum kuruluşu hangisidir?

- A) Uluslararası Hukuk Komisyonu
B) Uluslararası Kızılhaç Komitesi
C) Uluslararası PEN Kulübü
D) Uluslararası Af Örgütü

5. Türkiye Avrupa Konseyi'ne hangi tarihte katılmıştır?

- A) 8 Ağustos 1949
B) 12 Aralık 1949
C) 25 Mayıs 1990
D) 2 Eylül 1970

6. Aşağıdakilerden hangisi Avrupa İnsan Hakları Sözleşmesi'ne göre oluşturulan denetim organlarından değildir?

- A) Bakanlar Konseyi
B) Delegeer Komitesi
C) Parlamenter Meclisi
D) Avrupa İnsan Hakları Mahkemesi

7. I. Avrupa Birliği
II. Avrupa Konseyi
III. Birleşmiş Milletler

Yukarıdakilerden hangileri bütün dünya ülkelerinin katılımına açık, evrensel koruma organlarındandır?

- A) I, II ve III. B) II ve III.
C) I ve II. D) Yalnız III

8. Bu sözleşme, Güney Afrika'da yıllarca uygulanan sistemli ırkçılığı önleme ve cezalandırma amacı taşır.

Yukarıda verilen bilgi hangi kuruluşla aittir?

- A) Irk Ayrımcılığının Kaldırılması Komitesi
B) Apartheid'a Karşı Komite
C) İşkenceye Karşı Komite
D) İnsan Hakları Komitesi

9. Hem bir uluslararası organizasyona dahil olan hem de bu organizasyon tarafından hazırlanan bir antlaşmaya taraf olan devletler için uygulanır.

Verilen ifade aşağıdaki kavramlardan hangisine aittir?

- A) Sözleşme içi denetim
B) Uluslararası antlaşma
C) Sözleşme dışı denetim
D) Uluslararası bildirme

10. I. Liderler yetiştirmek
II. Seçimler için aday göstermek
III. Siyasal katılımı sağlamak

Yukarıdakilerden hangileri siyasi partilerin işlevlerindedir?

- A) Yalnız I B) I ve II.
C) II ve III. D) I, II ve III.

11. Türkiye'de demokratikleşme açısından önemli bir yere sahip olan bu Anayasa'da temel hak ve özgürlükler çağdaş demokrasilere uygun bir biçimde düzenlenmiş ve özgürlüklerin kısıtlanması güçleştirilmiştir.

Yukarıda verilen bilgi hangi Anayasa'ya aittir?

- A) 1982 B) 1961
C) 1924 D) 1921

12. Osmanlı Devleti'nde yenileşme hareketlerini başlatan ve devlet yönetimine "meşveret" usulünü getiren padişah hangisidir?

- A) III. Selim B) Abdülmecit
C) II. Mahmut D) II. Abdülhamit

13. I. Cehaletin önlenmesi
II. Az gelişmişlikle mücadele
III. Irk ayrımının teşvik edilmesi

Yukarıdakilerden hangileri sivil toplum örgütlerinin faaliyetleri arasında yer almaz?

- A) Yalnız I B) Yalnız III
C) I ve II. D) I, II ve III.

14. Dünya barışının sağlanması ve insan hakları ihlallerinin önlenmesi amacıyla 26 Haziran 1945'te kurulan örgüt aşağıdakilerden hangisidir?

- A) Avrupa Birliği
B) Avrupa Konseyi
C) Birleşmiş Milletler
D) Avrupa Güvenlik ve İşbirliği Teşkilatı

15. Aşağıdakilerden hangisi eski Atina'da uygulanan demokrasiye göre yönetimde söz sahibi olabilir?

- A) Köleler B) Kadınlar
C) Çocuklar D) Erkekler

16. Aşağıdakilerden hangisi Rönesans döneminin özelliklerinden değildir?

- A) Antik Çağ'ın eleştirici ve sorgulayıcı tutumu yeniden doğmuştur.
B) Halk egemenliğine dayalı yönetimler artmaya başlamıştır.
C) Aydınlanma 14. yy.da en parlak dönemine ulaşmıştır.
D) Batıda her alanda hızlı bir gelişme yaşanmıştır.

17. Çağdaş uygarlık seviyesini yakalamak ve bunun da ötesine geçmek için yapılan çalışmalar aşağıdaki kavramlardan hangisi ile ifade edilir?

- A) Çağdaşlaşma
B) Millî egemenlik
C) Bilimsellik
D) Bağımsızlık

18. Aşağıdakilerden hangisi Atatürk ilkelerinden biri değildir?

- A) Halkçılık B) Milliyetçilik
C) Devletçilik D) Reformculuk

19. İnkılapçılık ilkesinin öncelikli amacı aşağıdakilerden hangisidir?

- A) Herkesin inancının gereklerini özgürce yaşaması
B) Ülkenin ekonomik bağımsızlığını kazanması
C) Çağdaş medeniyetler seviyesine ulaşılması
D) Millî gelirin adil dağıtılması

3. OTURUM

20. "Bizim nazarımızda çiftçi, çoban, işçi, tüccar, sanatkâr, asker, doktor; vel-hasil herhangi bir sosyal müessesede faal bir vatandaşın hak, menfaat ve hürriyeti eşittir."

Yukarıdaki ifade Atatürk ilkelerinden hangisi ile doğrudan ilgilidir?

- A) Devletçilik
B) Halkçılık
C) Milliyetçilik
D) Cumhuriyetçilik

(615) SEÇ. DİL VE ANLA. – 5

1. **Öğretici metinler için aşağıdakilerden hangisi söylenemez?**

- A) Bilgi vermek için yazılır.
B) Gerçeklik değil, kurmaca ön plandadır.
C) Dil göndergesel işlevde kullanılır.
D) Dil sade ve anlaşılırdır.

2. **Aşağıdakilerden hangisi göstermeye dayalı metinlerden biridir?**

- A) Fıkra
B) Masal
C) Gezi yazısı
D) Komedi

3. **Aşağıdakilerden hangisi anı türünün konu ve içerik bakımından benzerlik gösterdiği türlerden değildir?**

- A) Sohbet
B) Günlük
C) Gezi yazısı
D) Otobiyografi

4. Geçen gün bir dergide yazınızı okudum. Ne çok üzüldüm bilseniz! Yoksa sizi de mi kaybettik? Nerede o eski güzelim öz Türkçe sözler, nerede o yazınızdaki edebiyat, ahlak, hak, sanat, merak, şiir gibi tatsız tuzsuz Osmanlıca sözler? Niçin şunun bunun sözüne bakıp da düşüncelerinizi değiştiriyorsunuz? O yeni sözleri beğenmeyenler var diye mi yazmak istemiyorsunuz?

Bu parçada aşağıdaki anlatım özelliklerinden hangileri görülür?

- A) Nesnel – doğrudan – somut
B) Öznel – dolaylı – somut
C) Öznel – doğrudan – soyut
D) Nesnel – dolaylı – soyut

5. Bilimsel bir konuyu veya bir kimsenin hayatını ve kişiliğini, eserlerini geniş olarak inceleyen ve bunları roman tarzında işleyen edebî yazılara - - - - veya - - - - denir.

Bu cümlede boş bırakılan yerlere sırasıyla aşağıdakilerden hangisi getirilmelidir?

- A) biyografi – otobiyografi
B) biyografik roman – monografi
C) bibliyografya – kaynakça
D) bilimsel roman – makale

6. Varlık Yayınlarından küçük bir kitap daha çıktı: Orhan Veli'nin Bütün Şiirleri. Yaşar Nabi iyi etmiş bunu düşündüğüne, zaten bu işle uğraşmak en çok ona düşerdi. Orhan Veli'yi de arkadaşlarını da Varlık dergisinde o tanıtmıştı. Ancak tamam değil o kitap. Orhan Veli'nin bir defteri vardır; on yıldan çok oluyor, bir gün kendisi vermişti. Şimdi nerede bilmiyorum, kolayca da bulamam. O defterdeki şiirlerinin birkaçı bu kitapta yok gibi geliyor bana.

Bu parça aşağıdaki metin türlerinden hangisine örnektir?

- A) Eleştiriye
B) Makaleye
C) Sohbeta
D) Fıkraya

7. İnsan, elinde ne illet var ki dokunduğunu değiştiriyor; iyi ve güzel şeyleri bozuyor. İyi olmak arzusu bazen öyle azgın bir tutku oluyor ki iyi olalım derken kötü oluyoruz. Bazıları der ki iyinin aşırısı olmaz çünkü aşırı oldu mu zaten iyi değil demektir. Sözcüklerle oynamak diyeceği gelir insanın buna.

Bu parça aşağıdaki metin türlerinden hangisine örnektir?

- A) Makaleye
B) Gezi yazısına
C) Haber yazısına
D) Denemeye

8. Hacivat: Vay Karagöz'üm, iki gözüm merhaba.

Karagöz: Hoş geldin suda pişmiş bal kaba...

Hacivat: Aman Karagöz'üm beni gelir gelmez darp etmenizin sebebi mucibesi?

Karagöz: Bizim bekçinin ne poturu var ne de cübbesi!

Hacivat: Yazıklar olsun sana Karagöz! Adam olmamışsın; haşa huzurdan, şu dünyaya eşek gelmişsin eşek gideceksin!

Karagöz: Ona ya Rabbi şükür!

Bu parça Karagöz oyununun hangi bölümünden alınmıştır?

- A) Mukaddime
B) Sonuç
C) Muhavere
D) Fasil

9. **Aşağıdakilerden hangisi gazete çevresinde gelişen metinlerden değildir?**

- A) Makale
B) Günlük
C) Deneme
D) Fıkra

10. **Aşağıdakilerden hangisi eleştiri türü için söylenemez?**

- A) Sanatçının veya eserin gerçek değerinin ortaya çıkarılması amaçlanır.
B) Temeli düşünce olan bir yazı türüdür.
C) Giriş, gelişme, sonuç olmak üzere üç bölümden oluşur.
D) Eserlerin sadece olumsuz yönü ortaya konur.

11. 1881 yılında Selanik'te üç katlı pembe bir evde dünyaya gelmişim. Annem bana baharda, mayısın herhangi bir günü doğduğumu söyledi. Benim doğum günüm niye 19 Mayıs olmasın? Çocukluğuma ilişkin ilk anımsadığım şey, okula gitme konusudur. Önce annemin istediği mahalle mektebine, daha sonra babamın tercih ettiği Şemsi Efendi Okuluna yazıldım.

Bu metin aşağıdaki türlerin hangisine örnektir?

- A) Otobiyografiye
B) Günlüğe
C) Biyografiye
D) Monografiye

12. "Konuşup görüşme" anlamına gelir. Yazarın herhangi bir konu hakkındaki duygu ve düşüncelerini okuyucuyla konuşur gibi bir anlatımla yazdığı metinlere - - - - denir.

Bu parçada boş bırakılan yere aşağıdakilerden hangisi getirilmelidir?

- A) deneme
B) sohbet
C) fıkra
D) makale

13. **Aşağıdakilerden hangisi Cumhuriyet Dönemi fıkra yazarlarından değildir?**

- A) Falih Rıfkı Atay
B) Yusuf Ziya Ortaç
C) Halide Edip Adıvar
D) Ahmet Kabaklı

3. OTURUM

14. Cahit Sıtkı Tarancı'dan Ziya Osman Saba'ya
Diyarbakır, 15.09.1935

Sevgili Ziyacığım,

Annem, babam ve kardeşlerim, yani bir kelimeyle sevdiğim arasındayım hâlde, senin gibi, dostluğuna en fazla güvendiğim ve önem verdiğim bir arkadaşın bu muhabbet çemberinin dışında, şimdilik camlar ötesinde kalmasına gönlüm razı olmuyor. Seni çok arıyorum.

Bu parça aşağıdaki mektup türlerinden hangisine örnektir?

- A) Açık mektup B) İş mektubu
C) Edebî mektup D) Resmî mektup

15. Babakale, Anadolu'nun zeytin ağaçlarıyla kaplı batı ucunda küçük bir balıkçı köyü. Renk renk teknelerin sıralandığı, küçük bir limanın yamacına kurulan bir köy, zamanın uzun yıllardır değiştiremediği eski zaman fotoğraflarını yansıtıyor.

Bu parça aşağıdaki türlerin hangisine örnektir?

- A) Günlüğe B) Makaleye
C) Mektuba D) Gezi yazısına

16. Aşağıdakilerden hangisi iş mektubunun yazımında dikkat edilmesi gerekenlerden değildir?

- A) Bu mektuplarda içtenlik aranır.
B) Mektubun gönderildiği kurumun ismi başa yazılır.
C) Sol alt tarafa adres yazılır.
D) Sağ alt köşeye imza atılır.

17. Gezi yazılarında genellikle aşağıdaki anlatım türlerinden hangisi kullanılır?

- A) Destansı B) Açıklayıcı
C) Kanıtlayıcı D) Tartışmacı

18. Aşağıdaki parçalardan hangisi öğretici bir metinden alınmıştır?

- A) Derinden derine ırmaklar ağlar, Uzaktan uzağa çoban çeşmesi.
B) Karagöz: Geçen gün çeşme başına gittim; orada bir eşek duruyordu, imrendim suratını yaladım.
Hacivat: Tu Allah iyiliğini versin!
C) İhtiyarın çevresindeki askerler birbirine karıştı. Bir çığıktır koptu. "Bey'e haber verin!.." diye bağırdılar. İhtiyarın koluna girdiler. Kuş gibi deniz kenarına uçurdular. Sandala koydular.
D) Deneme: Bir insanın herhangi bir konuda içini dökmek, paylaşmak amaçlı; kesin hükümlere varmadan samimi üslupla yazıldığı yazılardır.

19. Savaşın son günleriydi. Mustafa Kemal Paşa ile Fevzi ve İsmet Paşaları Uşak'ta bir masanın etrafında bulduk. General Trikopis ile General Dionis Türklere teslim olmuştu. Mustafa Kemal Paşa'nın huzuruna Nurettin Paşa'nın arkasında geldiler. Eğer korunmasalardı, Uşak halkı iki Yunan komutanı parçalayacaktı.

Bu parça aşağıdaki metin türlerinin hangisinden alınmıştır?

- A) Anıdan B) Biyografiden
C) Eleştiriden D) Sohbetten

20. Aşağıdakilerden hangisi edebiyatımızın ilk biyografi örneği kabul edilir?

- A) Gazel B) Tezkire
C) Mesnevi D) Kaside

(616) SEÇ. DİL VE ANLA. – 6

1. Aşağıdakilerden hangisi mülakat ile röportajın ortak özelliklerinden değildir?

- A) Sözlü anlatım türleri olmaları
B) Gazete ve dergilerde yayımlanmaları
C) Kişisel yorumlara yer verilmesi
D) Öncesinde araştırma ve ön hazırlık gerektirmeleri

2. Bilimsel toplantılarda konunun uzmanları tarafından belli bir konuda yapılan coşkulu konuşmalara - - - - denir.

Bu cümlede boş bırakılan yere aşağıdakilerden hangisi getirilmelidir?

- A) akademik söylev
B) hukuksal söylev
C) dinî söylev
D) iktisadi söylev

3. İnsanoğlunun üzerine ecdadım Bumin Kağan, İstemi Kağan oturmuş. Oturarak Türk milletinin ilini ve töresini tutuvermiş, düzene sokuvermiş. Dört taraf hep düşman imiş. Ordu sevk ederek dört taraftaki millet hep almış, tabi kılmış. Başlıya baş eğdirmiş, dizliye diz çöktürmüştü.

Bu parça aşağıdaki anlatım türlerinden hangisine örnektir?

- A) Konferansa B) Söyleve
C) Mülakata D) Röportaja

4. Aşağıdakilerden hangisi röportaj türünde eser vermemiştir?

- A) Mustafa Baydar
B) Nurullah Berk
C) Necmi Onur
D) Osman Bölükbaşı

5. Bir söylevcinin aşağıdakilerden hangisini yapması gerekir?

- A) Yöresel ifadelere sıkça yer vermemelidir.
B) Gereksiz ve abartılı sözler kullanmalıdır.
C) Dinleyicilerin kültür düzeylerini göz önünde bulundurmalıdır.
D) Kelimelerin anlamından çok vurguya önem vermelidir.

6. — Mısır'da nasıl vakit geçirdiniz?
— Kahire'nin yirmi beş kilometre cenubunda Helvan vardır. Sakin, asude bir köşedir. Orada oturdum. Zaten münzevi bir adamım. Gürültüyü sevmem.
— Sevdiniz mi Mısır'ı?
— Var, güzel tarafları var... Bilhassa kışın... Hoş yazın da sıcak iklimlerde bulunduğum için muzdarip olmadım.

Bu parça aşağıdaki türlerden hangisine örnektir?

- A) Mülakata B) Sohbeteye
C) Hikâyeye D) Söyleve

7. Aşağıdakilerden hangisi doğrudur?

- A) Söylevin amacı bir olayın aktarımını sağlamaktır.
B) Bir yeri konu alan röportajlar, gezi yazıları ile benzerlik gösterir.
C) Röportajlarda nesnellik ön plandadır.
D) Ekonomik konularda ekonomistlerin yaptıkları konuşmalara siyasi söylev denir.

8. • Röportaj yazarı, yazılarına kendi görüş ve düşüncelerini katabilir.
• Söylev türü edebiyatımızda Tanzimat'tan sonra gelişim göstermiştir.
• Sözlü anlatım türleri ön hazırlık gerektirir.

Bu cümleler doğru - yanlış olarak değerlendirildiğinde sıralama aşağıdakilerden hangisi olur?

- A) Y – D – Y B) D – D – Y
C) Y – Y – D D) D – Y – D

3. OTURUM

9. Aşağıdaki eserlerden hangisi röportaj türünde değildir?

- A) Edebiyatçılarımız Konuşuyor
- B) Abbas Yolcu
- C) Peri Bacaları
- D) Ustalarla Konuşmalar

10. Söylev türünün ilk örneklerini Eski Yunan ve Roma Dönemleri'nde görüyoruz. Eski Yunan edebiyatında - - - -, Latin edebiyatında - - - - ilk akla gelen söylevcilerdir.

Bu parçada boş bırakılan yerlere aşağıdakilerden hangileri sırasıyla getirilmelidir?

- A) Stendhal – Shakespeare
- B) Dostoyevski – Tolstoy
- C) Maupassant – Çehov
- D) Demosthenes – Cicero

11. Röportajlar aşağıdaki türlerin hangisiyle benzerlik göstermez?

- A) Mülakat
- B) Makale
- C) Söylev
- D) Gezi yazısı

12. Aşağıdakilerden hangisi mülakatı yapacak kişinin dikkat etmesi gerekenlerden değildir?

- A) Mülakat yapacağı kişiden randevu almalıdır.
- B) Konuşulanları okuyucuya yorumlarını da katarak aktarmalıdır.
- C) Sorduğu sorular açık ve net olmalıdır.
- D) Ayrıntıya girerek konuyu dağıtmamalıdır.

13. Söylevlerde dilin aşağıdaki işlevlerinden hangisinin kullanımı en azdır?

- A) Alıcıyı harekete geçirme
- B) Kanalı kontrol
- C) Heyecana bağlı
- D) Şiirsel

14. Cumhuriyet Dönemi'nin en önemli konuşmacısı olan Mustafa Kemal Atatürk tarafından kaleme alınmıştır. Bu eserde Türk milletinin bağımsız, yeni bir devlet kurmasının olağanüstü öyküsü baştan sona ilk ağızdan anlatılmıştır.

Bu parçada sözü edilen eser aşağıdakilerden hangisidir?

- A) Onuncu Yıl Nutku
- B) Çankaya
- C) Gençliğe Hitabe
- D) İstanbul Mitinglerinde

15. Aşağıdakilerden hangisi konusuna göre röportaj türlerinden değildir?

- A) Bir yeri konu alan
- B) Eşyayı konu alan
- C) Bir inancı konu alan
- D) İnsanı konu alan

16. Aşağıdaki eşleştirmelerden hangisi yanlıştır?

- A) Cuma hutbesinde iyiliğin önemiyle ilgili yapılan konuşma– Dinî söylev
- B) Maç öncesi amigonun taraftarları hareketlendirmek için yaptığı konuşma – Askerî söylev
- C) İş adamının piyasaya yeni çıkardığı ürün ile ilgili tanıtım konuşması – İktisadi söylev
- D) Avukatların müvekkillerini savunmak için mahkemede yaptığı konuşmalar – Hukuksal söylev

17. Aşağıdakilerden hangisi sözlü anlatım türlerinden değildir?

- A) Röportaj
- B) Mülakat
- C) Tiyatro
- D) Söylev

18. Sizin - - - - pek çok ünlü kişiyi bizlere daha iyi tanıttı, bazı olayların da bilinmeyen taraflarını gün yüzüne çıkardı. Bence yazılarınızdaki başarınızın anahtarı insanları tanıma yeteneğiniz ve sorularınızı ustaca bir araya getirmenizdir.

Bu parçada boş bırakılan yere aşağıdakilerden hangisi getirilmelidir?

- A) mülakatlarınız
- B) makaleleriniz
- C) denemeleriniz
- D) söylevleriniz

19. Aşağıdaki sanatçılardan hangisi söylev türünde eser vermemiştir?

- A) Ömer Naci
- B) Rıza Tevfik Bölükbaşı
- C) Osman Yüksel Serdengeçti
- D) Muharrem Ergin

20. Aşağıdaki eserlerden hangisi edebiyatımızdaki ilk mülakat örneklerindendir?

- A) Doğudan Gezi Notları
- B) Diyorlar ki
- C) Edebiyatçılarımız Ne Diyorlar
- D) Telsiz Duvaksız Anadolu

(626) SEÇ. TÜRK ED. – 6

1. Aşağıdaki dizelerin hangisi servetifünun anlayışıyla yazılmıştır?

- A) Herkesin bir yağmuru vardır ve bir rüzgârı
Aşk biraz ıslanmaktadır
- B) Sorma bana oymağımı, boyumu...
Beş bin yıldır millet gibi yaşarım.
- C) Sabahki tatlı rüzgârın
Budur çiçekli bir eşi
- D) Sarmış âfâkını bir dud-ı muannid,
Bir zulmet-i beyzâ ki pey-â-pey mütezâyid.

2. Aşağıdakilerden hangisi Servetifünun Dönemi hikâye ve romanlarında görülen edebî akımlardan biridir?

- A) Realizm
- B) Sembolizm
- C) Empresyonizm
- D) Sürrealizm

3. Benim olsaydın, ah bu mümkün olsaydı... Seni uzak, uzak, bu insanlardan pek uzak bir yere götürürdüm ki orada yalnız tabiatla kalırdık. Denizle, sema ile, sahra ile kalırdık... Sade ikimiz kalırdık...

Bu parça aşağıdaki şiir türlerinin hangisinden alınmıştır?

- A) Manzum hikâye
- B) Mensur şiir
- C) Epik şiir
- D) Didaktik şiir

4. Aşağıdakilerden hangisi Halit Ziya Uşaklıgil'in romanlarından değildir?

- A) Mai ve Siyah
- B) Aşk-ı Memnu
- C) Kırık Hayatlar
- D) Çalıkuşu

5. Fecriati topluluğu sanatçıları, edebiyat ve sanatla ilgili görüşlerini Servet-i Fünun dergisinde açıkladılar. Bu açıklama edebiyatımızda - - - sayılır.

Bu parçada boş bırakılan yere aşağıdakilerden hangisi getirilmelidir?

- A) ilk bildiri
- B) ilk çeviri
- C) ilk eleştiri
- D) ilk hatıra

6. Aşağıdaki sanatçılardan hangisi sadece Millî Edebiyat Dönemi'nde eser vermiştir?

- A) Ömer Seyfettin
- B) Reşat Nuri Güntekin
- C) Halide Edip Adıvar
- D) Yakup Kadri Karaosmanoğlu

3. OTURUM

7. Aşağıdaki anlayışlardan hangisi Millî Edebiyat Dönemi'nin başlamasında etkili olmuştur?

- A) Osmanlıcılık B) İslamcılık
C) Türkçülük D) Batıcılık

8. Edebiyat tarihçisi ve tarih araştırmacıdır. Türk edebiyatını dönemlere ayıran, bilimsel yöntemlerle inceleyen ilk araştırmacıdır. Eserlerinden bazıları şunlardır: Türk Edebiyatı Tarihi, Türk Edebiyatında İlk Mutasavvıflar vb.

Bu parçada sözü edilen sanatçı aşağıdakilerden hangisidir?

- A) Ziya Gökalp
B) Mehmet Fuad Köprülü
C) Mehmet Akif Ersoy
D) Ahmet Haşım

9. Realizm akımının şiirdeki karşılığına - - - - denir. Bu akım şiirdeki gerçekçiliktir. Bu akımda "Sanat için sanat" görüşünü benimseyen şairler; duygudan çok tasvire, düşünceye, biçim ve söyleyiş güzelliğine önem vermişlerdir.

Bu parçada boş bırakılan yere aşağıdakilerden hangisi getirilmelidir?

- A) romantizm B) klasisizm
C) sembolizm D) parnasizm

10. I. Nazmı nesre yaklaştırmıştır.
II. Sone ve terza-rima gibi yeni biçimleri denemiştir.
III. Bütün şiirlerinde bireysel konuları işlemiştir.
IV. Roman türünde başarılı eserler vermiştir.

Numaralanmış özelliklerden hangileri Tefik Fikret için söylenebilir?

- A) I ve II. B) I ve IV.
C) II ve III. D) III ve IV.

11. Sanatçı Millî Edebiyat Dönemi'nin en ünlü hikâye yazarıdır. Hikâyelerinde Maupassant tarzını benimsemiştir. Betimleme ve ruh çözümlemelerine hiç girmemiştir. Hikâyelerinin konularını günlük yaşamdaki olaylardan, çocukluk anılarından, tarihten ve folklorlardan almıştır.

Bu parçada sözü edilen sanatçı aşağıdakilerden hangisidir?

- A) Ziya Gökalp
B) Ömer Seyfettin
C) Mehmet Emin Yurdakul
D) Namık Kemal

12. Aşağıdakilerden hangisi Yakup Kadri Karaosmanoğlu'nun roman türündeki eserlerinden değildir?

- A) Kıralk Konak
B) Gençlik ve Edebiyat Hatıraları
C) Yaban
D) Hüküm Gecesi

13. Tiyatro ile ilgilenen sanatçı, Şahabettin Süleyman'dan etkilenmiştir. Fecriati topluluğunun Ahmet Haşım'den sonraki en önemli şairidir. Şiirlerinin tamamını "Ruh-ı Bıkayd" adlı eserde toplamıştır.

Bu parçada tanıtılan sanatçı aşağıdakilerden hangisidir?

- A) Tefik Fikret
B) Cenap Şahabettin
C) Tahsin Nahit
D) Süleyman Nazif

14. Aşağıdaki sanatçılardan hangisi realizm akımından etkilenmemiştir?

- A) Dostoyevski B) Tolstoy
C) Çehov D) Baudelaire

15. • Konuşma dilinin şiire yerleşmesi gerektiğini vurgulamışlardır.
• Aruz ölçüsünü terk ederek hece ölçüsünü kullanmışlardır.
• Romanlarda mekân İstanbul ile sınırlı kalmıştır.

Millî Edebiyat ile ilgili bu özellikler doğru-yanlış olarak değerlendirildiğinde sıralama aşağıdakilerden hangisi olur?

- A) D - D - Y B) D - Y - Y
C) Y - D - D D) Y - D - Y

16. Sanatçı 1897 yılında Türk - Yunan savaşı nedeniyle yazdığı "Cenge Giderken" adlı şiiriyle tanınmıştır. Halkın acılarını, dertlerini, ulusal bir duyarlılıkla dile getirmiştir. Hece ölçüsünü kullanmasına karşın halk edebiyatı nazım biçimlerini kullanmamıştır. Eserlerinden bazıları şunlardır: Türkçe Şiirler, Türk Sazı vb.

Bu parçada sözü edilen sanatçı aşağıdakilerden hangisidir?

- A) Reşat Nuri Güntekin
B) Mehmet Emin Yurdakul
C) Yakup Kadri Karaosmanoğlu
D) Mehmet Rauf

17. Reşat Nuri Güntekin'in Millî Edebiyat Dönemi'nde yazdığı tiyatro eseridir. Bu eserde farklı çevrelerde büyümüş iki gencin evlilikleri ve bu evlilikte kadının mutsuzluğu anlatılmaktadır.

Bu parçada sözü edilen eser aşağıdakilerden hangisidir?

- A) Çalıkuşu B) Tanrı Misafiri
C) Hançer D) Anadolu Notları

18. Edebiyatçidede topluluğunun yayın organı aşağıdakilerden hangisidir?

- A) Servet-i Fünun
B) Genç Kalemler
C) Varlık
D) Türk Yurdu

19. Aşağıdaki sanatçı - eser eşleştirmelerinden hangisi yanlıştır?

- A) Mehmet Rauf - Siyah İnciler
B) Tefik Fikret - Ferda
C) Halit Ziya Uşaklıgil - Aşk-ı Memnu
D) Halide Edip Adivar - Balıkesir Muhasebecisi

20. Aşağıdakilerden hangisi servetifünün romancılarından?

- A) Tefik Fikret
B) Halit Ziya Uşaklıgil
C) Cenap Şahabettin
D) Hüseyin Suat

(975) GİRİŞİMCİLİK - 2

1. Neyin, nasıl, ne zaman, nerede üretileceğine karar veren ve bunun için gerekli tüm çalışmaları yapan kişilere ait tanımlama aşağıdakilerden hangisidir?

- A) Girişimci B) Yönetici
C) Müdür D) Organizatör

2. Mal ve hizmet üretiminde kullanılan bedensel ve zihinsel çabaların tümüne ne ad verilir?

- A) Tabiat B) İş gücü
C) Sermaye D) Tüketim

3. Yaratıcı müteşebbislğe yönelik yapılan açıklamalardan hangisi yanlıştır?

- A) Yeni bir fikir vardır.
B) Yeni bir buluş esas alınır.
C) Kârlılığa gereken önem verilir.
D) Mevcut işleyiş aynen sürdürülür.

3. OTURUM

4. Aşağıdakilerden hangisi, müteşebbisliğin işlevlerinden birini gösterir?
- A) Yeni pazarlara kapalı olmak
B) Yeni girdi kaynakları bulabilmek
C) Daha iyiyi ucuza üretmekten kaçınmak
D) Kamu, devlet ilişkilerinden uzak durmak
5. Aşağıdakilerden hangisi, dünyada müteşebbisliğin önemli bir konuma sahip olmasının nedenlerinden biri değildir?
- A) Teknolojinin gelişmesini sağlar.
B) Vergi gelirlerinin artmasına neden olur.
C) Altyapı hizmetlerinin giderilmesini sağlar.
D) Sadece büyük tasarrufların üretime katılmasını sağlar.
6. Bilim adamı Abraham H. Maslow'un ihtiyaç hiyerarsisine göre, fizyolojik ihtiyaçlardan sonra hangi ihtiyaçlar ortaya çıkmaktadır?
- A) Güvenlik
B) Saygı
C) Başarma
D) Sevgi ve ait olma
7. Tüketim mallarının özelliklerine yönelik, aşağıdaki açıklamalardan hangisi yanlıştır?
- A) Kişi ihtiyaçlarını karşılar.
B) Örgüt ihtiyaçlarını karşılar.
C) Başka işlemden geçerek kullanılırlar.
D) Bu malları kullananlara son tüketici denir.
8. Aşağıdakilerden hangisi, talebin özelliklerinden birini gösterir?
- A) Tanıma süreci
B) Satın alma gücü
C) Doygunluk dönemi
D) İç ve dış çevre ile etkileşim
9. Aşağıdakilerden hangisi bir işletmenin yaşamını sürdürmesine yönelik bir hedef olamaz?
- A) İşletmenin, kısa vadeler için kurulması
B) Normal bir kazancın hedeflenmesi
C) İşletmenin sürekliliğinin hedeflenmesi
D) Mümkün olduğunca büyümenin esas alınması
10. Aşağıdakilerden hangisi, işletme yönetiminde başarılı bir yöneticinin "Vizyon sahipliği" niteliğini göstermektedir?
- A) Kişisel güveni ifade etme
B) Kişisel desteğini ifade etme
C) Etkileme ve duygularını anlayabilme
D) Görüşlerini rahatça ifade edebilme
11. Planlama ile ilgili verilen açıklamalardan hangisi doğru değildir?
- A) Planlama bilinçli bir süreçtir.
B) Doğabilecek riskleri en aza indirir.
C) Geleceği şans faktörüne bırakma işidir.
D) Geleceğe ilişkin kararların belirlenmesidir
12. İşletmelerde insan davranışlarının hedeflenen amacı gerçekleştirmek için yönlendirilmesine ne denir?
- A) Motivasyon
B) Organizasyon
C) Yürütme
D) Yöneltilme
13. Toplam kalite yönetiminin anlamı ve unsurları kapsamında, kalite ile ilgili yapılan açıklamalardan hangisi doğrudur?
- A) Kalite, sonuç olarak kabul edilir.
B) Kalite, başlangıç olarak kabul edilir.
C) Kalite, hata ayıklama olarak hedeflenir.
D) Kalite, kontrol yapılanması olarak hedeflenir.
14. Aşağıdakilerden hangisi kamu işletmeleri kapsamında değildir?
- A) İktisadi Devlet Teşekkülleri
B) Kamu İktisadi Kuruluşları
C) Döner Sermaye İşletmeleri
D) Dernek ve Vakıfların İktisadi İşletmeleri
15. Hukuki şekilleri bakımından "Adi Şirketler", aşağıdakilerden hangisinin kapsamında yer almaktadır?
- A) Özel İşletmeler
B) Kamu İşletmeleri
C) Karma İşletmeler
D) Yabancı Sermayeli İşletmeler
16. Aşağıdaki açıklamalardan hangisi, Kamu İktisadi Teşebbüslerinin özelliklerinden biri değildir?
- A) KİT'ler tüzel kişiliklerdir.
B) Zararları genel bütçeden karşılanır.
C) KİT'lerin kurulması özel girişimcilerle olur.
D) Yöneticileri büyük oranda devletçe belirlenir.
17. Aşağıdaki açıklamalardan hangisi, holdinglerin ortaya çıkaracağı bir sakınca olarak kabul edilebilir?
- A) Tekelci bir güç oluşturması
B) Sermaye birikimine yol açması
C) Çok sayıda işletmelerden oluşması
D) Ana işletme etrafında oluşum sağlanması
18. İki ya da daha fazla işletme yöneticisinin, bir ya da birkaç konuda ne yapacaklarını saptayıp, kalıcı bir işbirliği yapmaları, aşağıdakilerden hangisi ile ifade edilmektedir?
- A) POOL
B) RİNG
C) TRÖST
D) FÜZYON
19. Aşağıdaki açıklamalardan hangisi, satış işleminin gerçekleşmesine yönelik bir gerekliliktir?
- A) Arzın sağlanması
B) Satıcının fiyata razı olması
C) Ürün fiyatının tespit edilmesi
D) Ürün mülkiyetinin devredilmemesi
20. "Birincil talebi yaratma" açısından yapılacak bir reklam, aşağıdaki reklam çeşitlerinden hangisi ile ilgilidir?
- A) Yapanlar açısından
B) Hedef kitle açısından
C) Reklam içeriği açısından
D) Amaçlar açısından

TEST BİTTİ.
CEVAPLARINIZI KONTROL EDİNİZ.

CEVAP KÂĞIDI VE SORU KİTAPÇIĞI İLE İLGİLİ AÇIKLAMALAR

1. Cevap kâğıdınızdaki bilgilerin doğruluğunu kontrol ediniz ve cevap kâğıdınızı mürekkepli kalemle imzalayınız.
2. Cevap kâğıdı üzerinde kodlamalarınızı siyah kurşun kalemle yapınız.
3. Değiştirmek istediğiniz bir cevabı, yumuşak silgiyle cevap kâğıdını örselemeden temizce siliniz ve yeni cevabınızı kodlayınız.
4. Soru kitapçığının sayfalarını görevlilerin uyarıları doğrultusunda kontrol ediniz, baskı hatası var ise değiştirilmesini sağlayınız.
5. Soruların çözümü için size ayrıca boş kâğıt verilmeyecektir. Soru kitapçığının içindeki boş alanları soru çözümleri için kullanabilirsiniz.
6. Her sorunun dört seçeneğinden sadece biri doğrudur. Doğru seçeneği, cevap kâğıdınızın ilgili sütununa soru numarasını dikkate alarak yuvarlağın dışına taşırmadan kodlayınız. Soru kitapçığı üzerinde yapılan cevaplandırmalar dikkate alınmayacaktır.
7. Cevaplamaya istediğiniz dersin sorusundan başlayabilirsiniz. Cevabını bilmediğiniz sorular üzerinde fazla zaman kaybetmeden diğer sorulara geçiniz. Zamanınız kalırsa bu sorulara daha sonra dönebilirsiniz.
8. Yanlış cevaplarınız dikkate alınmadan sadece doğru cevaplarınız üzerinden puanlama yapılacaktır.
9. Soruları ve sorulara verdiğiniz cevapları, yanınızda götürmek amacıyla kaydetmeyiniz; hiçbir şekilde dışarı çıkarmayınız.
10. Sınav bitiminde soru kitapçığı ve cevap kâğıdını salon görevlilerine teslim ediniz.

SALON GÖREVLİLERİNCE SINAV BAŞLAMADAN ÖNCE ADAYLARA YAPILACAK SON UYARILAR

- Soracağınız bir şey varsa şimdi sorunuz, sınav başladıktan sonra sorularınıza cevap verilmeyecektir.
- Başlama zilini bekleyiniz.

Hepinize başarılar dileriz.

(Salon başkanı başlama ve bitiş saatini tahtaya yazacaktır.)

Bu kitapçığın her hakkı saklıdır. Hangi amaçla olursa olsun, kitapçığın tamamının veya bir kısmının Millî Eğitim Bakanlığı Ölçme, Değerlendirme ve Sınav Hizmetleri Genel Müdürlüğünün yazılı izni olmadan kopya edilmesi, fotoğraflarının çekilmesi, bilgisayar ortamına alınması, herhangi bir yolla çoğaltılması, yayımlanması veya başka bir amaçla kullanılması yasaktır. Bu yasağa uymayanlar, doğabilecek cezai sorumluluğu ve kitapçığın hazırlanmasındaki mali külfeti peşinen kabullenmiş sayılır.

02 TEMMUZ 2017 TARİHİNDE YAPILAN AÇIKÖĞRETİM LİSESİ / MESLEKİ AÇIKÖĞRETİM LİSESİ
2016-2017 ÖĞRETİM YILI 3. DÖNEM SINAVI 3. OTURUM T KİTAPÇIĞI CEVAP ANAHTARI

(113) DİN KÜL. AHL. BİL. – 3

1. D
2. C
3. A
4. B
5. D
6. C
7. B
8. A
9. B
10. A
11. D
12. C
13. B
14. C
15. D
16. A
17. C
18. D
19. B
20. D

(116) DİN KÜL. AHL. BİL. – 6

1. C
2. D
3. A
4. C
5. B
6. C
7. A
8. D
9. B
10. D
11. B
12. C
13. D
14. B
15. A
16. C
17. A
18. B
19. D
20. B

(124) SEÇMELİ FELSEFE – 2

1. C
2. D
3. B
4. A
5. C
6. B
7. D
8. A
9. D
10. B
11. C
12. D
13. A
14. B
15. B
16. C
17. A
18. B
19. A
20. D

(134) TARİH– 4

1. C
2. A
3. D
4. B
5. C
6. D
7. A
8. B
9. C
10. A
11. C
12. A
13. B
14. D
15. B
16. C
17. B
18. A
19. D
20. B

(114) DİN KÜL. AHL. BİL. – 4

1. D
2. B
3. A
4. C
5. A
6. C
7. D
8. C
9. C
10. A
11. B
12. D
13. B
14. C
15. A
16. D
17. B
18. A
19. C
20. D

(122) FELSEFE – 2

1. A
2. C
3. A
4. B
5. B
6. D
7. A
8. C
9. D
10. B
11. A
12. B
13. C
14. D
15. B
16. C
17. D
18. A
19. D
20. C

(133) TARİH – 3

1. A
2. C
3. D
4. A
5. A
6. B
7. C
8. B
9. D
10. A
11. C
12. D
13. B
14. A
15. B
16. A
17. D
18. B
19. A
20. C

(142) T.C. İNK. TAR. ATA. – 2

1. C
2. D
3. D
4. A
5. C
6. A
7. D
8. B
9. C
10. A
11. A
12. D
13. B
14. C
15. D
16. A
17. B
18. B
19. C
20. D

02 TEMMUZ 2017 TARİHİNDE YAPILAN AÇIKÖĞRETİM LİSESİ / MESLEKİ AÇIKÖĞRETİM LİSESİ
2016-2017 ÖĞRETİM YILI 3. DÖNEM SINAVI 3. OTURUM T KİTAPÇIĞI CEVAP ANAHTARI

(153) COĞRAFYA – 3

1. C
2. B
3. C
4. A
5. B
6. C
7. D
8. D
9. A
10. B
11. D
12. A
13. B
14. D
15. A
16. C
17. A
18. D
19. B
20. C

(158) COĞRAFYA – 8

1. D
2. B
3. B
4. A
5. D
6. C
7. B
8. A
9. A
10. D
11. D
12. A
13. C
14. B
15. A
16. C
17. B
18. C
19. C
20. D

(165) MATEMATİK – 5

1. A
2. B
3. C
4. B
5. A
6. D
7. A
8. B
9. C
10. B
11. B
12. D
13. A
14. C
15. B
16. C
17. D
18. D
19. A
20. D

(209) SOSYOLOJİ – 2

1. A
2. D
3. C
4. A
5. D
6. B
7. C
8. A
9. D
10. B
11. A
12. C
13. B
14. D
15. B
16. C
17. D
18. B
19. A
20. C

(154) COĞRAFYA – 4

1. D
2. C
3. A
4. A
5. B
6. D
7. B
8. C
9. A
10. D
11. C
12. B
13. C
14. B
15. D
16. C
17. A
18. D
19. B
20. A

(163) MATEMATİK – 3

1. A
2. D
3. C
4. D
5. C
6. A
7. B
8. A
9. C
10. D
11. C
12. D
13. B
14. B
15. A
16. D
17. B
18. C
19. D
20. A

(206) PSİKOLOJİ – 1

1. D
2. C
3. B
4. B
5. A
6. D
7. C
8. A
9. B
10. C
11. D
12. A
13. C
14. D
15. A
16. B
17. D
18. A
19. B
20. C

(242) İNGİLİZCE – 3

1. D
2. C
3. B
4. C
5. A
6. C
7. D
8. B
9. B
10. C
11. D
12. A
13. C
14. B
15. A
16. C
17. D
18. B
19. B
20. A

02 TEMMUZ 2017 TARİHİNDE YAPILAN AÇIKÖĞRETİM LİSESİ / MESLEKİ AÇIKÖĞRETİM LİSESİ
2016-2017 ÖĞRETİM YILI 3. DÖNEM SINAVI 3. OTURUM T KİTAPÇIĞI CEVAP ANAHTARI

(242) ALMANCA – 3

1. C
2. B
3. D
4. D
5. D
6. C
7. D
8. B
9. C
10. B
11. A
12. C
13. A
14. B
15. A
16. D
17. C
18. B
19. C
20. D

(403) DİL VE ANLATIM – 3

1. B
2. A
3. C
4. D
5. A
6. D
7. A
8. B
9. D
10. C
11. D
12. A
13. C
14. B
15. D
16. C
17. A
18. D
19. D
20. C

(406) DİL VE ANLATIM – 6

1. A
2. B
3. C
4. A
5. D
6. B
7. D
8. C
9. B
10. D
11. A
12. B
13. A
14. D
15. D
16. C
17. B
18. C
19. A
20. D

(416) TÜRK EDEBİYATI – 6

1. A
2. D
3. B
4. D
5. B
6. D
7. B
8. B
9. C
10. B
11. D
12. A
13. B
14. C
15. D
16. B
17. C
18. D
19. A
20. D

(242) FRANSIYZCA – 3

1. C
2. D
3. B
4. C
5. D
6. A
7. B
8. C
9. A
10. D
11. A
12. D
13. B
14. D
15. A
16. B
17. B
18. D
19. A
20. C

(405) DİL VE ANLATIM – 5

1. A
2. C
3. D
4. B
5. C
6. A
7. B
8. D
9. C
10. A
11. D
12. B
13. B
14. C
15. A
16. D
17. B
18. B
19. C
20. D

(413) TÜRK EDEBİYATI – 3

1. B
2. A
3. C
4. D
5. A
6. B
7. D
8. C
9. C
10. B
11. A
12. C
13. D
14. B
15. D
16. C
17. D
18. B
19. A
20. B

(426) FİZİK – 6

1. D
2. C
3. A
4. B
5. D
6. A
7. B
8. D
9. C
10. B
11. A
12. D
13. C
14. D
15. B
16. C
17. A
18. D
19. A
20. C

02 TEMMUZ 2017 TARİHİNDE YAPILAN AÇIKÖĞRETİM LİSESİ / MESLEKİ AÇIKÖĞRETİM LİSESİ
2016-2017 ÖĞRETİM YILI 3. DÖNEM SINAVI 3. OTURUM T KİTAPÇIĞI CEVAP ANAHTARI

(427) FİZİK – 7

1. D
2. A
3. D
4. C
5. A
6. C
7. A
8. D
9. B
10. C
11. B
12. C
13. A
14. C
15. B
16. D
17. A
18. D
19. B
20. A

(433) KİMYA – 3

1. A
2. B
3. D
4. D
5. C
6. B
7. B
8. A
9. C
10. C
11. A
12. D
13. B
14. B
15. D
16. C
17. C
18. A
19. B
20. A

(435) KİMYA – 5

1. C
2. B
3. D
4. A
5. B
6. C
7. B
8. D
9. B
10. C
11. A
12. C
13. D
14. B
15. B
16. D
17. A
18. A
19. D
20. D

(448) BİYOLOJİ – 8

1. C
2. A
3. B
4. D
5. D
6. B
7. C
8. A
9. B
10. A
11. D
12. C
13. A
14. D
15. C
16. B
17. C
18. D
19. A
20. B

(428) FİZİK – 8

1. A
2. D
3. B
4. C
5. A
6. C
7. A
8. C
9. B
10. D
11. A
12. B
13. B
14. D
15. C
16. D
17. B
18. C
19. D
20. D

(434) KİMYA – 4

1. A
2. B
3. C
4. D
5. C
6. A
7. B
8. D
9. C
10. D
11. D
12. C
13. C
14. B
15. A
16. B
17. D
18. C
19. A
20. B

(445) BİYOLOJİ – 5

1. A
2. D
3. C
4. C
5. B
6. D
7. C
8. B
9. D
10. C
11. B
12. C
13. A
14. A
15. B
16. A
17. D
18. A
19. B
20. D

(452) ÇAĞ. TÜRK DÜN. TAR. – 2

1. B
2. A
3. D
4. D
5. C
6. B
7. A
8. D
9. C
10. B
11. C
12. A
13. D
14. B
15. D
16. A
17. B
18. A
19. D
20. C

02 TEMMUZ 2017 TARİHİNDE YAPILAN AÇIKÖĞRETİM LİSESİ / MESLEKİ AÇIKÖĞRETİM LİSESİ
2016-2017 ÖĞRETİM YILI 3. DÖNEM SINAVI 3. OTURUM T KİTAPÇIĞI CEVAP ANAHTARI

(462) EKONOMİ – 2

1. C
2. D
3. B
4. A
5. C
6. D
7. C
8. A
9. B
10. A
11. A
12. B
13. D
14. C
15. B
16. B
17. A
18. D
19. C
20. D

(478) MANTIK – 1

1. C
2. D
3. A
4. D
5. B
6. A
7. B
8. D
9. C
10. A
11. D
12. B
13. C
14. A
15. B
16. D
17. C
18. A
19. B
20. C

(500) ALMANCA – 6

1. C
2. B
3. D
4. A
5. C
6. D
7. C
8. B
9. A
10. B
11. A
12. B
13. C
14. A
15. C
16. B
17. A
18. D
19. C
20. C

(503) SEÇMELİ TARİH – 3

1. D
2. B
3. A
4. C
5. C
6. A
7. B
8. C
9. D
10. A
11. C
12. D
13. B
14. C
15. A
16. B
17. D
18. C
19. B
20. A

(468) MATEMATİK – 8

1. C
2. B
3. B
4. A
5. D
6. B
7. C
8. D
9. D
10. C
11. A
12. B
13. C
14. D
15. A
16. C
17. B
18. B
19. A
20. D

(500) İNGİLİZCE – 6

1. C
2. A
3. B
4. D
5. B
6. C
7. A
8. D
9. D
10. B
11. A
12. C
13. D
14. C
15. B
16. D
17. A
18. A
19. D
20. B

(500) FRANSIZCA – 6

1. C
2. B
3. D
4. A
5. D
6. D
7. A
8. B
9. C
10. A
11. D
12. B
13. A
14. C
15. B
16. A
17. D
18. C
19. B
20. A

(504) SEÇMELİ TARİH – 4

1. C
2. D
3. A
4. D
5. D
6. C
7. A
8. D
9. B
10. A
11. C
12. A
13. B
14. D
15. C
16. A
17. B
18. C
19. D
20. A

02 TEMMUZ 2017 TARİHİNDE YAPILAN AÇIKÖĞRETİM LİSESİ / MESLEKİ AÇIKÖĞRETİM LİSESİ
2016-2017 ÖĞRETİM YILI 3. DÖNEM SINAVI 3. OTURUM T KİTAPÇIĞI CEVAP ANAHTARI

(505) SEÇMELİ COĞRAFYA – 3

1. D
2. A
3. B
4. B
5. C
6. C
7. A
8. D
9. A
10. D
11. D
12. C
13. B
14. C
15. B
16. D
17. B
18. C
19. A
20. A

(533) HZ. MUHAMMED'İN HAY. – 3

1. B
2. A
3. D
4. A
5. D
6. C
7. D
8. D
9. B
10. C
11. B
12. D
13. B
14. C
15. A
16. B
17. C
18. A
19. B
20. A

(542) TÜRK DİLİ VE ED. – 2

1. A
2. B
3. C
4. D
5. B
6. D
7. A
8. B
9. D
10. D
11. A
12. C
13. B
14. D
15. A
16. C
17. B
18. C
19. A
20. D

(615) SEÇ. DİL ANLA. – 5

1. B
2. D
3. A
4. C
5. B
6. A
7. D
8. C
9. B
10. D
11. A
12. B
13. D
14. C
15. D
16. A
17. B
18. D
19. A
20. B

(506) SEÇMELİ COĞRAFYA – 4

1. C
2. D
3. C
4. B
5. A
6. C
7. D
8. A
9. C
10. B
11. B
12. C
13. D
14. A
15. A
16. B
17. C
18. D
19. D
20. B

(534) HZ. MUHAMMED'İN HAY. – 4

1. A
2. C
3. D
4. B
5. A
6. C
7. D
8. B
9. A
10. B
11. A
12. D
13. A
14. C
15. C
16. B
17. D
18. B
19. D
20. B

(608) DEM. VE İNSAN HAKLARI – 2

1. A
2. D
3. C
4. B
5. A
6. C
7. D
8. B
9. A
10. D
11. B
12. A
13. B
14. C
15. D
16. C
17. A
18. D
19. C
20. B

(616) SEÇ. DİL ANLA. – 6

1. C
2. A
3. B
4. D
5. C
6. A
7. B
8. D
9. B
10. D
11. C
12. B
13. D
14. A
15. C
16. B
17. C
18. A
19. D
20. B

02 TEMMUZ 2017 TARİHİNDE YAPILAN AÇIKÖĞRETİM LİSESİ / MESLEKİ AÇIKÖĞRETİM LİSESİ
2016-2017 ÖĞRETİM YILI 3. DÖNEM SINAVI 3. OTURUM T KİTAPÇIĞI CEVAP ANAHTARI

(626) SEÇMELİ TÜRK EDEB. – 6

1. D
2. A
3. B
4. D
5. A
6. A
7. C
8. B
9. D
10. A
11. B
12. B
13. C
14. D
15. A
16. B
17. C
18. A
19. D
20. B

(975) GİRİŞİMCİLİK – 2

1. A
2. B
3. D
4. B
5. D
6. A
7. C
8. B
9. A
10. D
11. C
12. A
13. B
14. D
15. A
16. C
17. A
18. B
19. C
20. D