

T.C.
MİLLÎ EĞİTİM BAKANLIĞI
ÖLÇME, DEĞERLENDİRME VE
SINAV HİZMETLERİ GENEL MÜDÜRLÜĞÜ



AÇIK ÖĞRETİM LİSESİ / MESLEKİ AÇIK ÖĞRETİM LİSESİ
2016 - 2017 ÖĞRETİM YILI
2. DÖNEM SINAVI

1.
OTURUM

18 MART 2017 Saat: 09.30

<u>DERS KODU VE ADI</u>	<u>SAYFA</u>	<u>DERS KODU VE ADI</u>	<u>SAYFA</u>	<u>DERS KODU VE ADI</u>	<u>SAYFA</u>
(111) DİN KÜL. AHL. BİL. – 1	3	(407) DİL VE ANLATIM – 7	21	(502) İNGİLİZCE – 8	43
(112) DİN KÜL. AHL. BİL. – 2	4	(408) DİL VE ANLATIM – 8	23	(502) ALMANCA – 8	44
(115) DİN KÜL. AHL. BİL. – 5	5	(414) TÜRK EDEBİYATI – 4	24	(502) FRANZIZCA – 8	45
(121) FELSEFE – 1	6	(417) TÜRK EDEBİYATI – 7	25	(511) FIKIH – 1	46
(123) SEÇMELİ FELSEFE – 1	7	(418) TÜRK EDEBİYATI – 8	26	(532) HZ. MUHAMMED'İN HAY. – 2	47
(132) TARİH – 2	9	(421) FİZİK – 1	27	(609) MATEMATİK – 6	48
(136) TARİH – 6	10	(425) FİZİK – 5	29	(611) KARŞ. DİN. TAR. – 1	50
(151) COĞRAFYA – 1	11	(432) KİMYA – 2	31	(617) SEÇ. DİL VE ANLA. – 7	51
(155) COĞRAFYA – 5	12	(436) KİMYA – 6	32	(618) SEÇ. DİL VE ANLA. – 8	53
(157) COĞRAFYA – 7	13	(441) BİYOLOJİ – 1	33	(627) SEÇ. TÜRK ED. – 7	54
(181) İNGİLİZCE – 1	14	(443) BİYOLOJİ – 3	34	(628) SEÇ. TÜRK ED. – 8	55
(181) ALMANCA – 1	15	(446) BİYOLOJİ – 6	35	(711) İSLAM TARİHİ – 1	56
(181) FRANZIZCA – 1	16	(461) EKONOMİ – 1	36	(813) AKAİD VE KELAM – 1	58
(244) İNGİLİZCE – 5	16	(465) TEMEL DİNİ BİL. – 1	37	(931) SİYER – 1	59
(244) ALMANCA – 5	17	(477) İŞLETME – 2	38	(974) GİRİŞİMCİLİK – 1	60
(244) FRANZIZCA – 5	18	(479) MANTIK – 2	39	(999) MATEMATİK – 2	61
(401) DİL VE ANLATIM – 1	19	(484) SAĞLIK BİLGİSİ – 2	40		
(402) DİL VE ANLATIM – 2	20	(491) TRAF. VE İLK YARD. – 1	42		

ADAYLARIN DİKKATİNE!

- Her ders için 20 soru bulunmaktadır. Bu oturumda **180** dakikalık cevaplama süreniz vardır. Sınav başladıktan sonra ilk **30** dakika tamamlanmadan dışarı çıkmayınız.
- Sınav sırasında çanta, cep telefonu, saat, kablosuz iletişim sağlayan cihazlar ve kulaklık, kolye, küpe, bilezik, yüzük, broş ve benzeri eşyalar ile her türlü elektronik ve/veya mekanik cihazları yanınızda bulundurmuyunuz. Bu araçları yanınızda bulundurmanız ve kopya çekmeye teşebbüs etmeniz hâlinde sınavınız geçersiz sayılacaktır.
- Başvuru şartlarını taşımadığınız hâlde sınava girmeniz, kopya çekmeniz, başka adayın sınav evrakını kullanmanız, geçerli kimlik belgenizi ve sınav giriş belgenizi ibraz edemediğiniz durumlarda sınavınız geçersiz sayılacaktır.
- Sınavın değerlendirilmesi aşamasında, bilgisayar ortamında yapılan kopya analizinde sistemin ikili ve/veya toplu kopya tespiti hâlinde sınavınız geçersiz sayılacaktır.
- Adaylar, sınav kurallarına ve salon görevlilerinin tüm uyarılarına uymak zorundadır. Kurallara ve uyarılara uymayan adayların sınavları geçersiz sayılacaktır.**
- Sınav başladıktan sonra adayların salon görevlileri ve birbirleri ile konuşmaları; kalem, silgi vb. şeyleri istemeleri yasaktır.
- Adaylar sınav süresince, sınav giriş belgesi ile geçerli kimlik belgelerinden birinin aslını (fotoğraflı nüfus cüzdanı, pasaport veya sürücü belgesi) masalarının üzerinde bulundurmamak zorundadır.
- Sınav evraklarını teslim etmeyen, soru kitapçıklarının sayfalarından bir kısmını eksik teslim edenlerin sınavları geçersiz sayılacaktır.**
- Sınav başlamadan önce kitapçığın arkasındaki açıklamaları okuyunuz.

BAŞLAYINIZ DENMEDEN SORU KİTAPÇIKLARINI AÇMAYINIZ.

1. OTURUM

(111) DİN KÜL. AHL. BİL. – 1

1. Aşağıdakilerden hangisi insanı diğer canlılardan ayıran bir özelliktir?

- A) Yemek yemesi
- B) Yürümesi
- C) Düşünmesi
- D) Görmesi

2. Aşağıdakilerden hangisi insanın diğer canlılarla olan ortak özelliklerinden biridir?

- A) Akıllı ve iradeli olması
- B) Sorumluluk sahibi olması
- C) Düşünerek hareket etmesi
- D) Solunum yapması

3. "Her çocuk fitrat (tevhit inancı) üzerine doğar. Sonra onu anne ve babası ya Yahudi ya Hristiyan ya da Mecusi yapar."

Bu hadiste anlatılmak istenen düşünce aşağıdakilerden hangisidir?

- A) Kişinin dinini özgürce seçme hakkı vardır.
- B) Her insanın doğasında inanma ihtiyacı vardır.
- C) Dış etkenler inancın oluşmasında etkili değildir.
- D) Herkes sahip olduğu inancından sorumludur.

4. Aşağıdakilerden hangisi dinin sosyal hayattaki etkilerinden biri değildir?

- A) Ferdin manevi gelişimine katkıda bulunur.
- B) Birlik ve beraberliğin kökleşmesini sağlar.
- C) Suç işleme oranlarının azalmasında etkilidir.
- D) Huzur ve güven ortamının gelişmesini sağlar.

5. Tek tanrıcılık anlamına gelir. Evrendekileri ve içindekileri yaratan ve onları yaşatan Allah'tır. Ezeli ve ebedidir. Sonsuz şefkat sahibi bir varlıktır. Yalnız ona ibadet edilir.

Bu cümlede tanrı anlayışı açıklanan inanma biçimi aşağıdakilerden hangisidir?

- A) Politeizm
- B) Monoteizm
- C) Gnostisizm
- D) Agnostisizm

6. • Hedefi tanırsız bir dünya kurmaktır.
• Bunalım felsefesi olarak adlandırılır.
• "Din afyondur" ve "yok ispatlanamaz" tezini savunur.

Hakkında bilgi verilen inanma biçimi aşağıdakilerden hangisidir?

- A) Ateizm
- B) Monoteizm
- C) Politeizm
- D) Gnostisizm

7. Aşağıdakilerden hangisi ibadetin yapılış amaçlarından biri değildir?

- A) Karşılık beklemeden Allah'a gerektiği gibi şükretmek
- B) Allah'ın emrini yerine getirmek, rızasını kazanmaya çalışmak
- C) Sosyal ortamlarda sevgi ve saygınlık kazanmak
- D) İmanı güçlendirmek, güzel ahlak sahibi olmak

8. Aşağıdakilerden hangisi guslün şartlarından biridir?

- A) Yüzü üç defa yıkamak
- B) Kulak içlerini temizlemek
- C) Boynu ıslak elle mesh etmek
- D) Bütün bedeni kuru yer kalmaksızın yıkamak

9. Aşağıdakilerden hangisi abdestin farzlarından biri değildir?

- A) Elleri dirseklere kadar yıkamak
- B) Ağızı üç defa suyla çalkalamak
- C) Başın dörtte birini mesh etmek
- D) Ayakları topuklarla birlikte yıkamak

10. Teyemmüm hakkında aşağıda verilen bilgilerden hangisi yanlıştır?

- A) Suyun bulunmadığı veya kullanılmayacağı durumlarda geçerlidir.
- B) Teyemmüm İslam dininin ibadette sağladığı bir kolaylıktır.
- C) Su bulunduğu teyemmümün hükmü ortadan kalkar.
- D) Her namaz için ayrı ayrı teyemmüm alma şartı yoktur.

11. Aşağıda verilen bilgilerden hangisi yanlıştır?

- A) İlk hicret 622 yılında Habeşistan'a yapılmıştır.
- B) İlk Cuma namazı Ranuna Vadisi'nde kılınmıştır.
- C) İlk vahiy 610 yılı Ramazan ayında gelmiştir.
- D) I. Akabe Biati 620 yılında yapılmıştır.

12.

Muhammed Mustafa (sav.)	
1. Doğum yeri: Mekke	4. Anne adı: ----
2. Doğum tarihi: ----	5. Dede adı: ----
3. Baba adı: ----	6. Amca adı: Ebu Talip

Tabloda boş bırakılan yerlere yazılması gerekenler sırasıyla hangi seçenekte doğru olarak verilmiştir?

- A) 571, Abdullah, Aişe, Hamza
- B) 622, Hamza, Amine, Ebu Bekir
- C) 571, Abdullah, Amine, Abdulmuttalib
- D) 632, Abdulmuttalib, Halime, Abdullah

13. Aşağıdakilerden hangisi Hz. Muhammed'in (sav.) toplumsal barışa yönelik etkinliklerinden biri değildir?

- A) Muhacirlerle ensar arasında kardeşlik tesis etmesi
- B) Cahiliye Döneminden kalan kan davalarını kaldırması
- C) Medine'deki farklı inanç gruplarıyla Barış Antlaşması imzalaması
- D) Mescid-i Nebi'nin bitişğine "Suffe" denilen bölümler yaptırması

14. Aşağıdakilerden hangisi Veda Hutbesi'nde yer alan konulardan biri değildir?

- A) Tevhit İnancı
- B) Temel Haklar
- C) Melek İnancı
- D) Emanetler

15. "Muhammed yalnızca bir elçidir. Ondan önce de elçiler gelip geçti. Şimdi o ölür veya öldürülürse gerisin geri dönecek misiniz? Kim geri dörnerse bilsin ki Allah'a asla bir zarar vermiş olmayacaktır. Allah şükredenleri ödüllendirecektir."
(Âl-i İmran suresi, 144. ayet)

Aşağıdakilerden hangisi bu ayetten çıkarılabilecek sonuçlardan biridir?

- A) Allah'a isyanda kula itaat yoktur.
- B) Bütün canlılar ölümlü, Allah ise bakidir.
- C) Hz. Muhammed (sav.) her insan gibi ölümlüdür.
- D) Kur'an-ı Kerim'de 25 Peygamberin adı geçmektedir.

1. OTURUM

(112) DİN KÜL. AHL. BİL. – 2

16. I. **Ensar:** Dinleri için Mekke'den Medine'ye hicret eden Müslümanlar.
II. **Muhacir:** Hicret edenlere her türlü yardımı yapan Medinelî Müslümanlar.
III. (**sav.**): "Allah'ın rahmeti ve bereketi onun (Peygamberimizin) üzerine olsun" anlamında bir dua.
IV. **Suffe:** İslam'ı öğrenmek için Medine dışından gelen yoksul, kimsesiz ve yetimlerin kaldığı odalar.

Numaralanmış kavramlardan hangilerinin açıklaması doğru olarak verilmiştir?

- A) I ve II. B) I ve III.
C) II ve IV. D) III ve IV.

17. Kur'an-ı Kerim hakkında aşağıdaki bilgilerden hangisi yanlıştır?

- A) Bir defada indirilmiştir.
B) Mesajları evrenseldir.
C) 114 sure, 30 cüzden oluşur.
D) Son gelen ilahi kitaptır.

18. İslam'ı doğru bir şekilde öğrenmek isteyen bir kimsenin başvurması gereken ilk kaynaklar aşağıdakilerden hangisidir?

- A) Cemaatler ve tarikatlar
B) Medyumlar ve falcılar
C) Alimler ve müşřitler
D) Kur'an ve Sünnet

19. Kur'an-ı Kerim'in değişmeden günümüze kadar gelmesinde aşağıdakilerden hangisi en etkili olmuştur?

- A) Mekke ve Medine'de nazil olması
B) İnen ayetlerin yazıya geçirilmesi
C) Ayetlerin 23 yılda inmesi
D) Dilinin Arapça olması

20. Aşağıdaki kavramlar bir kurala göre eşleştirilmiştir.

Buna göre hangi eşleştirme yanlıştır?

- A) Ayet - Hadis B) Mukabele - Cüz
C) Sure - Tecvit D) Meal - Tefsir

1. "Bir toplumda genel kabul gören veya benimsenen her türlü duygu, düşünce ve davranışa - - - - denir."

Cümlede boş bırakılan yere aşağıdaki kavramlardan hangisi getirilmelidir?

- A) Hukuk B) Alışkanlık
C) Değer D) Sanat

2. Aşağıdakilerden hangisi değerlerin oluşumunda etkili değildir?

- A) Ahlak B) Din
C) Kültür D) Soy

3.

I	Ahlakî Değerler	A	Helal, haram
II	Dini Değerler	B	İyi, kötü
III	Sanatsal Değerler	C	Güzel, çirkin

Tabloda verilenler eşleştirildiğinde aşağıdakilerden hangisi doğru olur?

- A) I - A B) I - B
C) II - C D) III - B

4. Aşağıdakilerden hangisi toplumu birleştiren ortak değerlerden biri değildir?

- A) Vatan B) Spor
C) Hürriyet D) Bağımsızlık

5. Mehmet Âkif Ersoy bir sözünde "Allah, bir daha bu millete İstiklâl Marşı yazdırmaz!" demiştir.

Mehmet Âkif'in bu söz söylemesindeki amaç aşağıdakilerden hangisidir?

- A) Vatanın hürriyet ve bağımsızlığının kaybedilmesi endişesi
B) İstiklâl Marşı'nı yeniden yazacak kadar ömrünün olmaması
C) Herkesin milli duygularını açıkça ifade edecek güce sahip olamayacağı
D) TBMM tarafından İstiklâl Marşı'nı yazacak şaire ödül verilmesine karşı olması

6. Aşağıdakilerden hangisi İslam dininin korunmasını istediği temel ilkelerden biri değildir?

- A) Akıl B) Din
C) Örf D) Can

7. İslam dini; dil, din, ırk, cinsiyet, milliyet, sosyal statü ve renk gözetmeksizin insana, insan olduğu için bir takım haklar tanımış, hem teoride hem de pratikte bunu ortaya koymuştur.

Aşağıdakilerden hangisi bu duruma örnek gösterilemez?

- A) Veda Hutbesi
B) Medine Sözleşmesi
C) Kan davası ve köleliğin yasaklanması
D) İnsan Hakları Evrensel Beyanamesi

8. Din, her zaman bireyi esas almış ve insanın davranışlarından sorumlu olacağını bildirmiştir.

Aşağıda verilen ayetlerden hangisi bu duruma örnek gösterilemez?

- A) "Hiç kimse başkasının günah yükünü yüklenmez..."
(Zümer suresi, 7. ayet)
B) "Kim zerre miktarı hayır yapmışsa onu görür. Kim de zerre miktarı şer işlemişse onu görür."
(Zilzâl suresi, 7 ve 8. ayetler)
C) "Ve de ki: Gerçek, rabbinizden gelendir. Artık dileyen iman etsin, dileyen inkâr etsin..."
(Kehf suresi, 29. âyet)
D) "Mü'minler o kimselerdir ki, Allah'ın adı anıldığında yürekleri titrer, kendilerine Allah'ın âyetleri okunduğunda bu onların imanını artırır."
(Enfâl suresi, 2. âyet)

9. Aşağıda laiklik hakkında verilen bilgilerden hangisi doğrudur?

- A) Devletin tüm inançlara eşit mesafede olmasıdır.
B) Belli bir inancı empoze etmek için ortaya çıkmıştır.
C) 1789 Fransız İhtilali ile laiklik önemini yitirmiştir.
D) Rönesans ve Reform hareketleri laikliği olumsuz etkilemiştir.

10. Aşağıdakilerden hangisi laikliğin temel amaçlarından biri değildir?

- A) Din ve vicdan hürriyetini güvence altına almak
B) Dinde ruhbanlık anlayışını yaygınlaştırmak
C) Dinin istismarını ortadan kaldırmak
D) Bilimsel çalışmaların önünü açmak

11. Türkiye Cumhuriyeti Anayasasına Laiklik ilkesi kaç yılında girmiştir?

- A) 1919 B) 1924
C) 1937 D) 1960

1. OTURUM

12. Atatürk'ün laiklik anlayışında aşağıdakilerden hangisi yoktur?

- A) Tutuculuk B) Çağdaşlık
C) Dindarlık D) Hoşgörü

13. Laiklik ilkesinde aşağıdakilerden hangisi yer almaz?

- A) İfade özgürlüğü
B) Hukukun üstünlüğü
C) Din ve mezhep taassubu
D) İnançlara saygı

14. Aşağıdakilerden hangisi Türklerin Müslüman olma sürecini kolaylaştıran durumlardan biri değildir?

- A) Emevilerin tutumları
B) Ehl-i beytle tanışmaları
C) Abbasilerle kurulan ilişkiler
D) Tek tanrı ve ahiret inancı

15. Aşağıdakilerden hangisi ilk Müslüman Türk Devletleri'nden biri değildir?

- A) Karahanlılar
B) Gazneliler
C) Hazarlar
D) İtil Volga Bulgar Devleti

16. • 699 yılında Kûfe'de doğdu, 767 yılında Bağdat'ta vefat etti.
• Türklerin İslam anlayışının oluşmasında etkili olmuş bir fıkıh âlimidir.
• Eserleri; Fıkh-ı Ekber ve el-Âlim ve'l-Müteallim'dir.

Hakkında bilgi verilen İslam alimi aşağıdakilerden hangisidir?

- A) İmam Eş'ârî B) İmam Şafîî
C) Ahmet Yesevî D) Ebu Hanife

17. Aşağıdakilerden hangisi Gök Tanrı inancının temel özelliklerinden biri değildir?

- A) Tanrı bir ve tektir.
B) İyilik ve kötülüğün karşılığı sadece dünyadadır.
C) Dünya hayatından sonra sonsuz bir hayat vardır.
D) Yaratan, yaşatan ve koruyandır.

18. • Kitabü't-Tevhit
• Kitabü'l-Makâlât
• Te'vilatu'l-Kur'ân

Bu eserler aşağıdaki alimlerden hangisine aittir?

- A) İmam Şafîî B) Ahmet Yesevî
C) Ahî Evran D) İmam Maturidî

19. Anadolu'da esnaf ve sanatkârlar arasında dayanışmayı sağlayan, dinî ve ahlakî kurallarla iktisadî kuralları birleştirip, sosyal bir yapıya kavuşturan teşkilat aşağıdaki-lerden hangisidir?

- A) Ahîlik B) Yesevîlik
C) Mevlevîlik D) Bektaşîlik

20. İslam dünyasına Türkler vasıtasıyla yayılmıştır. Suluboya veya altın yıldız kullanılarak kâğıt ya da deri üzerine resim yapma sanatıdır. Öndeki objelerle arkadakiler aynı büyüklükte çizilir. Nakşî, Levnî ve Nigarî bu sanatın ustalarındandır.

Hakkında bilgi verilen sanat dalı aşağıdakilerden hangisidir?

- A) Ebru B) Tezhip
C) Hüsnü hat D) Minyatür

(115) DİN KÜL. AHL. BİL. – 5

1. • Allah'ın başlangıçtan sonsuza kadar olmuş ve olacak olan tüm olayların yerini ve zamanını bilip takdir etmesidir.
• Allah'ın önceden takdir edip belirlediği olayların yeri ve zamanı geldiğinde gerçekleşmesidir.
- Bu bilgiler aşağıdaki kavramlardan hangilerine aittir?

- A) Hayır ve şer
B) İrade ve rızık
C) Kader ve kaza
D) Tevekkül ve irade

2. Yüce Allah'ın dilediği her şeyi yapabilme gücüne külli irade, insanın bir şeyi yapıp yapmama gücünün sınırlı olmasına ise cüzi irade denir.
- Buna göre aşağıdakilerden hangisi cüzi iradeye örnek oluşturur?

- A) Yoktan var etmek
B) Evrende bir düzen oluşturmak
C) Gece gündüz süresini belirlemek
D) Güneşi enerji kaynağı olarak kullanmak

3. Örf ve âdetleri de fıkhîta ikincil delil olarak kabul eden mezhep aşağıdakilerden hangisidir?

- A) Hanefîlik B) Şafîîlik
C) Malikîlik D) Caferîlik

4. "... Kararını verdiği zaman artık Allah'a dayanıp güven. Çünkü Allah kendisine dayanıp güvenenleri sever." (Â-i İmrân suresi, 159. ayet)

Bu ayet aşağıdaki kavramlardan hangisi ile ilişkilidir?

- A) Rızık B) Tevekkül
C) Kaza D) Kader

5. "Hiçbir başarı tesadüf olmadığı gibi, başarısızlık da kaderin bir sonucu değildir."

Bu sözle anlatılmak istenen düşünce aşağıdakilerden hangisidir?

- A) İnsan cüzi iradesiyle sınırlı bir varlıktır.
B) İnsan kaderini yaşar.
C) Başarı ya da başarısızlık kaderimizdir.
D) İnsan için ancak çalışmasının karşılığı vardır.

6. "Başınıza gelen her musibet kendi yapıp ettikleriniz yüzündendir..." (Şûrâ suresi, 30. ayet)

Bu ayetten aşağıdakilerden hangisi çıkarılamaz?

- A) Musibetler kaçınılmazdır.
B) Musibetlerin sorumlusu insanlardır.
C) Musibetlerin sebebi davranışlardır.
D) İnsanın başına gelenler sebepsiz değildir.

7. Aşağıdakilerden hangisi İslam Dinindeki ibadetlerde bulunması gereken ilkelerden biri değildir?

- A) İsteklilik
B) Kolaylık
C) Gizlilik
D) Gösterişten uzak olmak

8. • Suyun bulunmadığı ortamlarda teyemmüm ile abdest almak
• Hasta veya yolcuların Ramazan orucunu erteleyebilmesi
• Soğuk havalarda mest giyilmesi

Aşağıdaki hadis ve ayetlerden hangisi verilen örneklerle ilişkili değildir?

- A) "Allah sizin için kolaylık ister, zorluk istemez..." (Bakara suresi, 185. ayet)
B) "Allah size herhangi bir güçlük çıkarmak istemez..." (Mâide suresi, 6. ayet)
C) "Kolaylaştırınız, zorlaştırmayınız; müjdeleyiniz, nefret ettirmeyiniz." (Hadis-i Şerif)
D) "Bilesiniz ki kalpler ancak Allah'ı anmakla huzur bulur." (Ra'd suresi, 28. ayet)

1. OTURUM

9. Aşağıdakilerden hangisi ibadetlerin bireysel faydalarındandır?

- A) Yardımlaşmayı artırır.
- B) Sorumluluk bilincini geliştirir.
- C) Diğerkâmlığı yerleştirir.
- D) Birlik ve beraberliği sağlar.

10. Aşağıdaki bilgilerden hangisi yanlıştır?

- A) İbadetler, insanı Allah'a yaklaştırır.
- B) İbadetler maneviden çok maddi menfaat sağlar.
- C) Diğerkâmlık, başkası için fedakârlıkta bulunmaktır.
- D) Allah'ın rızasına uygun olan her davranış ibadettir.

11. Hz. Muhammed'in adı anıldığında söylenen ve kısaca (sav.) olarak yazılan dua cümlesinin anlamı aşağıdakilerden hangisidir?

- A) Allah'ım! Muhammed'e ve onun ümmetine hayır ve bereket ver.
- B) Bütün güzellikler Peygamber'in ve ehl-i beytinin üzerine olsun.
- C) Allah'ın rahmeti ve selamı O'nun (Peygamber'in) üzerine olsun.
- D) Allah'tan başka ilah yoktur ve Hz. Muhammed O'nun resulüdür.

12. Aşağıdakilerden hangisi Hz. Muhammed'in (sav.) sahip olduğu özelliklerden biri değildir?

- A) Merhamet
- B) Doğruluk
- C) Kararlı olmak
- D) Hırslı olmak

13. Müşriklerin işkenceleri sonucu bütün mallarını Mekke'de bırakıp Medine'ye göç eden muhacirlere, Medineli Müslümanlar (ensar), evlerini açmış ve her şeylerini onlarla paylaşmışlardır.

Medineli Müslümanların bu davranışı aşağıdaki özelliklerden hangisine örnek oluşturur?

- A) Diğerkâmlık
- B) Dürüstlük
- C) Hoşgörü
- D) Sabır

14. Sözlükte görüş, akım, gidilen ve takip edilen yol anlamlarına gelir. Dini terim olarak kendi içinde tutarlı bir metot ve düşünce sistemine sahip olma, belli fikirler ve şahıslar etrafında oluşan itikadi ve fihki oluşumlardır.

Açıklanan kavram aşağıdakilerden hangisidir?

- A) Tasavvuf
- B) Mezhep
- C) Din
- D) Sünnet

15. Aşağıdakilerden hangisi İslam düşüncesinde yorumları birleştiren temel unsurlardan biri değildir?

- A) Tevhit
- B) Ahiret
- C) Kader
- D) Kur'an-ı Kerim

16. **Muhkem ayetler:** Açık, kesin, manası herkes tarafından aynı şekilde anlaşılan ayetlerdir.

Müteşabih ayetler: Birden fazla anlama gelebilen, manası herkes tarafından kolayca anlaşılamayan, açıklanması için başka delillere ihtiyaç duyulan ayetlerdir.

Buna göre aşağıdaki ayetlerden hangisi müteşabih ayetlere örnektir?

- A) "De ki: O Allah'tır, tektir."
(İhlâs suresi, 1. ayet)
- B) "Sana buyrulduğu gibi dosdoğru ol!..."
(Hûd suresi, 112. ayet)
- C) "...Allah'ın eli onların elleri üzerindedir."
(Fetih suresi, 10. ayet)
- D) "Ey iman edenler! Kendinizin veya anne babanızın aleyhine de olsa adaletten asla ayrılmayın..."
(Nisâ suresi, 135. ayet)

17. Aşağıdakilerden hangisi İslam düşüncesinde ortaya çıkan amelî-fihkî yorumlardan biri değildir?

- A) Maturidilik
- B) Hanefilik
- C) Caferilik
- D) Şafilik

18. Aşağıdakilerden hangisi İslam düşüncesinde yorum farklılıklarının sonuçlarından biri değildir?

- A) Dini yaşamada kolaylık sağlamıştır.
- B) İslam düşünce ve kültürüne zenginlik katmıştır.
- C) Farklı ilim dallarının ortaya çıkmasına zemin hazırlamıştır.
- D) Teknik ilerlemelere zemin hazırlamıştır.

19. • Hz. Muhammed'den (sav.) sonra ilk halife Hz. Ali'dir.

- Açık veya gizli bir tehlike karşısında inancını gizlemek esastır.
- Hz. Ali ve onun soyundan gelenler Allah'ın emri ile seçilmiş, günahsız ve masum imamlardır.

Bu bilgiler aşağıdaki mezheplerden hangisine aittir?

- A) Mu'tezile
- B) Şia
- C) Eş'arilik
- D) Haricilik

20. Mu'tezile mezhebinin temel görüşlerinden olan "El menzile beyne menzileteyn" kavramı neyi ifade etmektedir?

- A) İnsanın eylemlerinde özgür olmasını
- B) Allah'ın zatı ve sıfatlarıyla bir olmasını
- C) Büyük günah işleyenin iman ile küfür arasında olmasını
- D) İnsanların iyilikle emrolunması, kötülükten alıkonulmasını

(121) FELSEFE – 1

1. Aşağıdakilerden hangisi felsefi bilginin özelliklerinden değildir?

- A) Evrenseldir.
- B) Düzenli ve sistemlidir.
- C) Yöntemi deney ve gözlemdir.
- D) Yiğilân (kümülatif) bir bilgidir.

2. Doğayı konu edinen bilimlerden hangisinin birliğine verilmiştir?

- A) Jeoloji - Kimya
- B) Psikoloji - Biyoloji
- C) Kimya - Matematik
- D) Sosyoloji - Matematik

3. Aşağıdakilerden hangisi metafiziğin ele aldığı temel problemler arasında yer almaz?

- A) Varlıkla ilgili problemler
- B) Tanrı ve ruhla ilgili problemler
- C) Bilginin değeri ile ilgili problemler
- D) Evrenin yapısı ve ne olduğuyla ilgili problemler

4. I. Din
II. Varlık
III. Siyaset

Yukarıdakilerden hangileri felsefenin ele aldığı konulardandır?

- A) I ve II.
- B) I ve III.
- C) II ve III.
- D) I, II ve III.

5. Bilgiyi konu edinen felsefe dalı aşağıdakilerden hangisidir?

- A) Mantık
- B) Ontoloji
- C) Epistemoloji
- D) Fenomenoloji

1. OTURUM

6. • Bilginin nesnesine tam olarak uy-
masıdır.
• Ortaya konulan bilginin gerekçelen-
dirilmesidir.
• Belirli bir zamanda ve mekânda var
olan her şeydir.

Yukarıdaki tanımlar sırasıyla hangi kavramlara aittir?

- A) Temellendirme - gerçeklik - doğruluk
B) Gerçeklik - doğruluk - temellendirme
C) Gerçeklik - temellendirme - doğruluk
D) Doğruluk - temellendirme - gerçeklik

7. **Aşağıdakilerden hangisi genel geçer doğru bilginin insan için olanaksız olduğunu savunan görüştür?**

- A) Pozitivizm B) Septisizm
C) Pragmatizm D) Rasyonalizm

8. Felsefe varlık, değer ve Tanrı üstüne doğruluğu test edilemeyen görüşler öne sürmek yerine, dildeki kavramları çözümlemelidir.

Bu görüşü savunan felsefe akımı aşağıdakilerden hangisidir?

- A) Emprizm B) Kritisizm
C) Pragmatizm D) Analitik felsefe

9. **Aşağıdaki hangisi empirizmin savunduğu görüşler arasında yer almaz?**

- A) Faydalı olan bilgi doğru bilgidir.
B) Bilginin kaynağında tecrübe ve deney vardır.
C) İnsan zihni dünyaya geldiğinde boş bir levha gibidir.
D) İnsan aklında doğuştan gelen hiçbir bilgi yoktur.

10. Sokrates maiotik yöntemi kullanarak, hiçbir şey bilmediğini söyleyen kişilere, aslında birçok şey bildiğini gösterirdi. Ona göre, öğretmen öğrencisine yeni bir şey öğretmez; ancak onun aklında var olan bilgileri ortaya çıkarır.

Sokrates'in bu görüşleri aşağıdakilerden hangisine ters düşer?

- A) Bilginin kaynağı akıldır.
B) Bilgiye ulaşmak mümkündür.
C) Tüm bilgiler aklımızda doğuştan vardır.
D) İnsan bilgiyi öğrenme yoluyla sonradan kazanır.

11. **Aşağıdakilerden hangisi bilginin kaynağının duyu, akıl ve nazar olduğunu savunan Türk-İslam filozofudur?**

- A) Farabi B) Birünî
C) Harezmi D) Harun Reşit

12. **Bilimin konusunu, ulaştığı sonuçları ve yöntemini sorgulayan felsefe dalı aşağıdakilerden hangisidir?**

- A) Bilgi felsefesi B) Varlık felsefesi
C) Ahlak felsefesi D) Bilim felsefesi

13. **Bilimin tarih içindeki gelişimi ile ilgili aşağıda verilen bilgilerden hangisi yanlıştır?**

- A) İlk bilimsel çalışmalar Çin ve Hint'te başlamıştır.
B) Bilim Eski Yunan'da büyük bir gelişme göstermiştir.
C) Orta Çağ, İslam dünyasında bilimsel çalışmaların yasaklandığı dönemdir.
D) Rönesans'la birlikte Avrupa'da önemli bilimsel gelişmeler yaşanmıştır.

14. **Bilimin ulaştığı sonuçların, aynı türden bütün olaylar için geçerli olması, bilimsel bilginin hangi özelliği ile ilgilidir?**

- A) Eleştirici olmasıyla
B) Genellenebilir olmasıyla
C) Kendi içinde tutarlı olmasıyla
D) Birikimli olarak ilerlemesiyle

15. **Aşağıdakilerden hangisi felsefe ve bilimin ortak yönleri arasında yer alır?**

- A) Olgusal olma
B) Akla dayanma
C) Deneye dayanma
D) Kesin sonuçlara ulaşma

16. **Aşağıdakilerden hangisi klasik bilim anlayışının dayandığı görüşlerden değildir?**

- A) Bilimler birbirine indirgenemez.
B) Bilim nesnel gerçekliği konu edinir.
C) Bilim sürekli gelişen bir hazine gibidir.
D) Bilim toplumun değerlerinden bağımsızdır.

17. I. Varlığı parçalara ayırarak ele alır.
II. Varlığın var olup olmadığını sorgular.
III. Varlığı akıl yoluyla açıklamaya çalışır.

Felsefenin varlığa yaklaşımı ile ilgili yukarıda verilen bilgilerden hangileri doğrudur?

- A) I ve II. B) I ve III.
C) II ve III. D) I, II ve III.

18. "Hiçbir şey var değildir, var olsa bile bilinemez; bilinse bile başkalarına aktarılamaz."

Gorgias'ın bu görüşü varlık felsefesinin öncelikle hangi sorusuna cevap niteliğindedir?

- A) Varlık nedir?
B) Varlık var mıdır?
C) Varlık nasıl oluşmuştur?
D) Varlık bir midir, çok mudur?

19. **Aşağıdaki filozoflardan hangisi varlığın düşünceden oluştuğunu savunmuştur?**

- A) Platon B) Hobbes
C) K.Marks D) La Mettrie

20. Descartes'a göre, madde ve ruh olmak üzere iki töz vardır. Madde yer kaplar ama düşünemez, ruh ise düşünür ama yer kaplayamaz. Varlık bu iki tözün ürünüdür.

Aşağıdakilerden hangisi Descartes'in bu görüşünden çıkarılabilecek bir sonuç değildir?

- A) Varlık gerçekten vardır.
B) Varlık ruh ve maddeden oluşmuştur.
C) Varlık sürekli değişme hâlinindedir.
D) Madde ve ruhun fonksiyonları birbirinden farklıdır.

(123) SEÇMELİ FELSEFE – 1

1. İnsanın pratik ihtiyaçlarını en kestirme yoldan karşılamayı amaçlayan, deneme-yanılma yoluyla elde edilen, düzensiz, yöntemsiz bir bilgi türüdür.

Yukarıda hangi bilgi türünün tanımı verilmiştir?

- A) Dini bilgi B) Teknik bilgi
C) Sanat bilgisi D) Gündelik bilgi

2. **Aşağıdakilerden hangisi insan bilimlerindedir?**

- A) Fizik B) Mantık
C) Psikoloji D) Matematik

1. OTURUM

3. Aşağıdakilerden hangisi felsefe ile bilimin ortak özellikleri arasında yer almaz?

- A) Sistemli ve tutarlı olma
- B) Evreni ve insanı açıklamaya çalışma
- C) Akıl ve mantık ilkelerine dayalı olma
- D) Olgular arasındaki neden-sonuç ilişkisiyle ilgilenme

4. Felsefenin ruh, öteki dünya, Tanrı, ölümsüzlük gibi sorunlarla uğraşan alanı aşağıdakilerden hangisidir?

- A) Mantık
- B) Ontoloji
- C) Metafizik
- D) Epistemoloji

5. Aşağıdakilerden hangisi bilgi kuramının temel kavramlarından biri değildir?

- A) Süje
- B) Obje
- C) Arkhe
- D) Temellendirme

6. I. Bilginin değeri nedir?
II. Doğru bilgiye nasıl ulaşılır?
III. Evren sonlu mudur, sonsuz mudur?
Yukarıdakilerden hangileri bilgi kuramının temel soruları arasında yer alır?

- A) I ve II.
- B) I ve III.
- C) II ve III.
- D) I, II ve III.

7. Aşağıdaki felsefi akımlardan hangisinin sözcük anlamı doğru olarak verilmiştir?

- A) Emprizm = Olguculuk
- B) Pozitivizm = Deneycilik
- C) Pragmatizm = Faydacılık
- D) Rasyonalizm = Eleştiricilik

8. Aşağıdaki görüşlerden hangisi Sokrates'e ait değildir?

- A) Düşünüyorum, öyleyse varım.
- B) Sorgulanmamış hayat yaşanmaya değer.
- C) Erdem bilgidir, ancak her bilgi erdem değildir.
- D) Bildiğim bir şey var, o da hiçbir şey bilmediğim.

9. Varlıkların özüne ulaşmak için bir yöntem öne süren, öze ulaşmak için verilmiş tüm bilgilerin önce parantez içine alınması gerektiğini savunan felsefe akımı aşağıdakilerden hangisidir?

- A) Kritisizm
- B) Pozitivizm
- C) Rasyonalizm
- D) Fenomenoloji

10. Aşağıdaki filozoflardan hangisi kritisizm akımının temsilcisidir?

- A) İ. Kant
- B) J. Locke
- C) A. Comte
- D) E. Husserl

11. İnsan her şeyin ölçüsüdür. Herkesin üzerinde uzlaşabileceği bir doğru yoktur, bu yüzden yargıdan kaçınılmalıyız.

Protagoras'ın bu sözünden aşağıdakilerin hangisine ulaşabiliriz?

- A) Duyum ve algılar nesnedir.
- B) Doğrular kişiden kişiye değişir.
- C) Herkesin üzerinde uzlaşabileceği tek bir doğru vardır.
- D) Herhangi bir konuda genel geçer bir yargıda bulunabiliriz.

12. Aşağıdakilerden hangisi bilim felsefesinin sorularından biri değildir?

- A) Bilim nedir?
- B) Bilimin değeri nedir?
- C) Bilimsel yöntem nedir?
- D) Evrende özgürlük var mıdır?

13. Aşağıdakilerin hangisinde bilimsel yöntemin aşamaları doğru olarak sıralanmıştır?

- A) Gözlem - Hipotez - Deney - Kuram
- B) Kuram - Hipotez - Deney - Gözlem
- C) Hipotez - Deney - Kuram - Gözlem
- D) Deney - Kuram - Gözlem - Hipotez

14. Aşağıdaki görüşlerden hangisi bilimi etkinlik olarak ele alan yaklaşıma ters düşer?

- A) Bilim, bilim adamları topluluğunun bir etkinliğidir.
- B) Bilim, dönemin değer ve inançlarından bağımsız değildir.
- C) Bilim, düz bir çizgi şeklinde hep mükemmelere doğru ilerler.
- D) Paradigmaların doğruluğundan ve yanlışlığından söz edilemez.

15. Bilimsel bilgi, kişiden kişiye ya da toplumdaki topluma değişmez.

Yukarıda bilimsel bilginin hangi özelliğinden söz edilmiştir?

- A) Eleştiricilik
- B) Objektiflik
- C) Mantıksallık
- D) Genellenebilirlik

16. • Barut kayaları parçalayarak, tüneller açmak ve geçitler yapmak için kullanılabilir gibi, kentleri yıkmak ve insanları öldürmek için de kullanılabilir.
• Atom enerjisi üretiminde kullanılabilir gibi, atom bombası yapımında da kullanılabilir.

Bu örneklerde vurgulanan düşünce aşağıdakilerden hangisidir?

- A) Bilimsel araştırmalara son verilmesi gerekir.
- B) Bilim insanlar tarafından hep kötüye kullanılmıştır.
- C) Bilimsel gelişmeler insanlığa sadece fayda getirir.
- D) Bilim insanlığın yararına olduğu gibi, zararına da kullanılabilir.

17. Hiçbir şeyin var olmadığını savunan felsefi görüş aşağıdakilerden hangisidir?

- A) Realizm
- B) Nihilizm
- C) Idealizm
- D) Rasyonalizm

18. Dış dünyada somut olarak var olan varlıklara felsefede "gerçek varlık" denir. Bu tanıma göre aşağıdakilerden hangisi gerçek varlık değildir?

- A) Peri
- B) Kalem
- C) Karpuz
- D) Çam ağacı

19. Aşağıdakilerden hangisi varlığı madde olarak kabul eden filozoflar arasında yer alır?

- A) Platon
- B) Demokritos
- C) Descartes
- D) Aristoteles

20. Herakleitos'a göre, evren ve her şey sürekli değişim ve akış halindedir. Bu durumu "iki kez yıkanamazsınız aynı ırmakta" sözüyle ifade eder.

Aşağıdaki yargılardan hangisi Herakleitos'un bu görüşünü destekler?

- A) Varlık yoktur.
- B) Her şey her zaman aynı kalır.
- C) Varlık durağan bir yapıya sahiptir.
- D) Evrende değişmeyen hiçbir şey yoktur.

1. OTURUM

(132) TARİH – 2

1. İslamiyet öncesi Arap Yarımada-sı'nda Main, Seba, Himyeri, Gassani gibi birbirinden bağımsız devletçiklerin bulunması, aşağıda-kilerden hangisine kanıttır?

- A) Araplar arasında dinsel birliğin sağlandığına
- B) Arap Yarımadası'nda siyasi birliğin olmadığına
- C) Araplar arasında putperestlik in-anışının yaygın olduğuna
- D) Arap Yarımadası'nda bağımsız İslam Devleti'nin kurulduğuna

2. İslamiyet öncesinde Arap Yarımadası'nda,

- I. köle ticaretinin yapılması,
- II. kadının miras hakkından mahrum olması,
- III. Mekke civarında panayırların ha-ram aylarda kurulması

durumlarından hangileri sosyal adaletin olmadığını gösterir?

- A) Yalnız I
- B) I ve II.
- C) II ve III.
- D) I, II ve III.

3. Bedir Savaşı'nın sonuçlarından bazıları şunlardır:

- I. İslam tarihinin ilk savaşıdır.
- II. Müslümanların kendilerine olan güvenleri artmıştır.
- III. Şam Ticaret Yolu'nun kontrolü Müslümanların eline geçmiştir.
- IV. Savaş alanındaki ganimetler Müslümanlar arasında paylaştırıl-mıştır.

Bu sonuçlardan hangileri Müslümanların ekonomik kazanç sağladığını gösterir?

- A) I ve II.
- B) II ve III.
- C) III ve IV.
- D) I, II, III ve IV.

4. Aşağıdakilerden hangisi, Hz. Ömer Dönemi'nde İslam Devleti'nin sı-nırlarının genişlemesiyle birlikte görülen bir gelişme değildir?

- A) Halifeliğin saltanat hâline getiril-mesi
- B) Ordugâh şehirlerinin kurulması
- C) Ülkenin büyük eyaletlere ayrılması
- D) Adli teşkilatın kurularak illere kadı-ların tayin edilmesi

5. Aşağıdaki olaylardan hangisi Emeviler Dönemi'nde gerçekleş-memiştir?

- A) İstanbul'un kuşatılması
- B) İspanya'nın fethi
- C) Mevali sorunu
- D) Deve Olayı

6. Avrupa'da;

- İslam ilerleyişinin durması,
- Afrika ve İspanya'da karışıklıkların çıkması

gibi olaylar, aşağıdakilerin hangisi sonucunda gerçekleşmiştir?

- A) Köprü Savaşı
- B) Hz. Muhammed'in vefatı
- C) Puvatya Savaşı
- D) Kavimler Göçü

7. Aşağıdaki İslami bilimlerden hangisiyle uğraşanlara "müfessir" denir?

- A) Hadis
- B) Tefsir
- C) Fıkıh
- D) Kelam

8. Aşağıdaki savaşlardan hangi ikisi iki Türk devleti arasında yapılmış-tır?

- A) Yassı Çimen - Dandanakan
- B) Miryokefalon - Malazgirt
- C) Dandanakan - Katvan
- D) Ankara - Talas

9. İslamiyet'in Türkler arasında hızla yayılmaya başlamasının nedenleri arasında, aşağıdakilerden hangisi yoktur?

- A) Gök Tanrı inancında tanrının tek olması
- B) İlk Türklerde devletin ikili teşkilatla yönetilmesi
- C) Hırsızlık, yalancılık ve adaletsizlik anlayışlarının Türklerde yasak olması
- D) İlk Türklerin temizliği önemse-melerine karşılık İslamiyet'te de "Temizlik imandandır." anlayışının bulunması

10. Hittin Savaşı sonunda Kudüs'ün haçlılardan geri alınmasını sağla-yarak III. Haçlı Seferi'nin düzenlen-mesine neden olan devlet, aşağı-dakilerden hangisidir?

- A) Fatımi
- B) Gazne
- C) Eyyubi
- D) Tolunoğulları

11. Divan-ı İstifanın görev alanı, aşağıdakilerin hangisinde doğru ve-rilmiştir?

- A) Mali işler
- B) Askeri işler
- C) Eğitim işleri
- D) İç ve dış yazışmalar

12. Karahanlılar Dönemi'nde meydana getirilen yazılı eserler arasında aşağıdakilerden hangisi yoktur?

- A) Atabetü'l Hakayık
- B) Danişmentname
- C) Divan-ı Hikmet
- D) Kutadgu Bilig

13. Aşağıdakilerden hangisi Türk - İslam devletlerindeki saray görev-lilerinden değildir?

- A) Kapucubaşı
- B) Yargıcı
- C) Emir-i alem
- D) Emir-i ahur

14. • Sultan Alp Arslan'ın komutanların-dan Ahmet Gazi tarafından 1080 yılında kurulmuştur.

- Beylik kuruluş yıllarında Erzincan, Kemah, Divriği ve Şebinkarahisar dolaylarına hâkim olmuş, hüküm-darlarından İshak Bey'in ölümün-den sonra "Erzincan – Kemah" ve "Divriği" olmak üzere iki kola ayrılmıştır.
- Türkiye Selçukluları her iki beyliğin hâkimiyetine son vermiştir.

Bazı özellikleri verilen Türk beyliği, aşağıdakilerden hangisidir?

- A) Saltuklular
- B) Artuklular
- C) Mengücekliler
- D) Danişmentliler

15. Türkiye Selçuklu Devleti'nde de-nizcilik alanındaki asıl gelişmeler Yükselme Dönemi'nde yaşanmıştır. Bu dönemin sultanları, ülkelerinde denizcilik ve deniz ticaretini gelişt-irmek amacıyla önemli çalışmalar yapmışlar ve bir takım önlemler al-mışlardır.

Aşağıdakilerden hangisi bu çalış-maların sonucunda ortaya çıkan gelişmelerden biri olamaz?

- A) Kıyıların güvenliğinin sağlanması
- B) Sinop ve Alanya tersanelerinin kurulması
- C) Üretilen malların limanlardan ihraç edilmesi
- D) Ülkenin yönetim bakımında idari bölümlere ayrılması

1. OTURUM

16. Aşağıdaki devletlerden hangisinin kurulduğu coğrafya, diğerlerinden farklıdır?

- A) İhşidler B) Akhunlar
C) Gazneliler D) Karahanlılar

17. Aşağıdakilerden hangisi, Türk – İslam devletlerinde toprak sistemini oluşturan bölümlerden biri değildir?

- A) Has B) İhta
C) Tezhip D) Mülk

18. I. Miryokefalon Savaşı - I. İzzeddin Keykavus
II. Köseadağ Savaşı - II. Gıyaseddin Keyhüsrev
III. Yassı Çimen Savaşı - I. Alâeddin Keykubat
IV. I. Haçlı Seferi - II. Kılıç Arslan
Yukarıda verilen "savaş - hükümdar" eşleştirmelerinden hangileri doğrudur?

- A) Yalnız I B) I ve II.
C) II ve III. D) III ve IV.

19. Selçukluların, Anadolu'daki şehirler arasında kervansaraylar inşa etmelerinin temel nedeni, aşağıdakilerden hangisidir?

- A) Ticareti geliştirmek
B) Şehirleri güzelleştirmek
C) Yoksullara yardım etmek
D) Sınır güvenliğini sağlamak

20. Aşağıdaki eserlerden hangisi Türkiye Selçuklularından kalmadır?

- A) Divriği Ulu Cami
B) Erzurum Üç Kümbetler
C) Mardin Hatuniye Medresesi
D) Aksaray - Kayseri yolu üzerindeki Alay Hanı

(136) TARİH – 6

1. İlahi dinlerin sonuncusu ve Hz. Muhammed'in peygamber olarak tebliğ ettiği din aşağıdakilerden hangisidir?

- A) İslamiyet B) Hristiyanlık
C) Musevilik D) Budizm

2. Aşağıdaki dönemlerden hangisine aynı zamanda "Hülafa-i Raşidin" de denir?

- A) Hz. Muhammed Dönemi'ne
B) Dört Halife Dönemi'ne
C) Emeviler Dönemi'ne
D) Abbasiler Dönemi'ne

3. Hazarlar, Kıpçaklarla miladi 718 yılında birleşerek Kür – Aras boyunca, kimleri bozguna uğratmışlardır?

- A) İranlıları B) Moğolları
C) Abbasileri D) Emevileri

4. • Cemal ve Sıffin savaşları yapıldı.
• Müslümanlar arasında bölünmeler oldu.

Yukarıda verilenler, İslam halifelerinden hangisinin döneminde gerçekleşmiştir?

- A) Hz. Ali B) Hz. Ömer
C) Hz. Osman D) Hz. Ebu Bekir

5. İslamiyet'i kabul eden ilk Türk boyu, aşağıdakilerden hangisidir?

- A) Kırgızlar B) Kimekler
C) Karluklar D) Kumanlar

6. Aşağıdaki eşleştirmelerden hangisinde Mısır'da kurulan ilk Türk-İslam devletleri birlikte verilmiştir?

- A) Tolunoğulları - Akkoyunlular
B) Fatımiler - İhşidoğulları
C) Tolunoğulları - İhşidoğulları
D) Timurlular - Eyyubiler

7. Gazne Devleti'nin son başkenti, aşağıdaki şehirlerden hangisidir?

- A) Kaşgar B) Şiraz
C) Gazne D) Lahor

8. Aşağıdaki savaşlardan hangisi Memluk Devleti ile İhanlılar arasında yapılmıştır?

- A) Ayn-ı Calüd B) Mercidabık
C) Ridaniye D) Katvan

9. Halifelik makamı, aşağıdaki hangi olay sonrasında Bağdat'tan Mısır'a geçmiştir?

- A) I. Haçlı Seferi
B) Şii Fatımi Devleti'nin baskısı
C) Hülağü'nün Abbasi Devleti'ne son vermesi
D) Anadolu'da Türkiye Selçuklu Devleti'nin kurulması

10. Büyük Selçuklu Devleti'nin yıkılmasından sonra kurulan devletler arasında aşağıdakilerden hangisi yoktur?

- A) Türkiye Selçukluları
B) Kirman Selçukluları
C) Salgurlu Selçukluları
D) Suriye Selçukluları

11. Çağatay Türkçesinin en büyük şairi olarak kabul edilen Ali Şir Nevai'nin, Türkçenin Farsçadan daha zengin bir dil olduğunu ispatlamak amacıyla yazdığı eseri, aşağıdakilerden hangisidir?

- A) Kitabü'l Cebr ve'l- Mukabele
B) Muhakemet'ül Lügateyn
C) Divan-ı Lügat-it-Türk
D) Şehname

12. Aşağıdakilerden hangisi Karahanlı Devleti'nin özelliklerinden biridir?

- A) Gazneliler tarafından yıkılması
B) Anadolu'yu Türk yurdu yapmaları
C) Hakanlarının "Sultan" unvanını taşımaları
D) Orta Asya'da kurulan ilk Müslüman Türk devleti olması

13. Aşağıdaki topluluklardan hangisi, Karahanlı Devleti'nin kurucu unsurlarından değildir?

- A) Çiğil B) Kırgız
C) Karluk D) Yağma

14. Moğolların, Tebriz - Tahran şehirleri arasında kurdukları kent, aşağıdakilerden hangisidir?

- A) Hemedan B) Sultaniye
C) Herat D) Rey

15. Cengiz Han Döneminde Moğol hâkimiyetine giren ilk Türk kavmi, aşağıdakilerden hangisidir?

- A) Sabar B) Karluk
C) Kırgız D) Avar

16. Aşağıdakilerden hangisi Hindistan'da kurulan Türk devletlerinden biridir?

- A) Babür Devleti
B) Safevi Devleti
C) Memluk Devleti
D) Karahanlı Devleti

1. OTURUM

17. Aşağıdakilerden hangisi Çağatay Türkçesini kullanmamıştır?

- A) Moğollar B) Babürlüler
C) Timurlular D) Karahanlılar

18. Hindistan'da kendi adıyla anılacak bir devlet kuran hükümdar aşağıdakilerden hangisidir?

- A) Cihangir B) Babür
C) Alemgir D) Bahadır

19. Aşağıdaki hangi devlette sosyal yapının kumanda zinciri "Kağan - Köbegün - Noyan - Nöker" şeklinde oluşmuştur?

- A) Moğollarda
B) Timurlularda
C) Memluklerde
D) Babürlülerde

20. Aşağıdaki devletlerden hangisi İngilizler tarafından ortadan kaldırılmıştır?

- A) Akkoyunlu Devleti
B) Karakoyunlu Devleti
C) Timur Devleti
D) Babür Devleti

(151) COĞRAFYA – 1

1. Aşağıdakilerden hangisi fiziki coğrafyanın alt dallarından biri olan jeomorfolojinin araştırma alanı ile ilişkilidir?

- A) Atmosfer B) Litosfer
C) Hidrosfer D) Biyosfer

2. Silindirik projeksiyon ile aşağıdaki yerlerden hangisinin haritası çizilirken hataları en aza indirmek amaçlanmıştır?

- A) Kuzey Kutbunun
B) Güney Kutbunun
C) Ekvator çevresinin
D) Dönenceler çevresinin

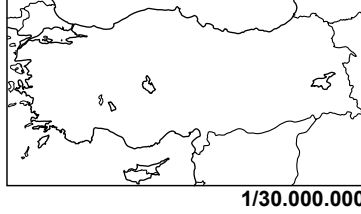
3. 36° - 42° kuzey paralelleri arasında yer alan Türkiye'nin kuzeyi ile güneyi arasındaki kuş uçuşu mesafe yaklaşık kaç km dir?

- A) 444 B) 666 C) 777 D) 999

4. 45° doğu meridyeninde bulunan İğdir'da yerel saat 14:00 iken aynı anda başlangıç meridyeninde yerel saat kaçtır?

- A) 10:00 B) 11:00
C) 16:30 D) 17:00

5.



Görseldeki farklı ölçekte çizilmiş iki Türkiye haritasında aşağıdaki özelliklerden hangisi değişmez?

- A) Gerçek uzaklık
B) Haritadaki uzaklık
C) Haritanın kapladığı alan
D) Ayrıntıyı gösterme gücü

6. Gerçek alanı 500 km^2 olan bir adanın 5 cm^2 ile gösterildiği haritanın ölçeği nedir?

- A) 1/100
B) 1/100.000
C) 1/1.000.000
D) 1/10.000.000

7. Haritalarda yüzey şekillerini gösteren yöntemlerle ilgili verilen bilgilerden hangisi yanlıştır?

- A) Kabartma yöntemi ile haritadaki yerin üç boyutlu maketi yapılır.
B) Eş yükselti yönteminde eğim arttıkça izohipsler sıklaşır.
C) Gölgeleme yönteminde eğim arttıkça gölge koyulaşır.
D) Renklendirme yönteminde dağlar tarama ile gösterilir.

8. Güney Yarım Küre'de en uzun gündüz ne zaman yaşanır?

- A) 21 Aralık B) 21 Haziran
C) 21 Mart D) 23 Eylül

9. Aşağıdakilerden hangisi Dünya'nın Güneş etrafında dönüşünün sonuçlarından biridir?

- A) Meltem rüzgârları oluşur.
B) Sürekli rüzgarlarda sapmalar oluşur.
C) Gece gündüz süreleri yıl boyunca değişir.
D) Dinamik basınç kuşakları oluşur.

10. Su buharının tamamının bulunduğu atmosfer katı hangisidir?

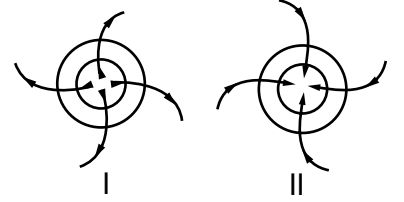
- A) Termosfer B) Mezosfer
C) Stratosfer D) Troposfer

11. Bir gözlemci yaz mevsiminde Akdeniz kıyılarından Marmara kıyılarından daha sıcak olduğunu kaydetmiştir.

Buna göre sıcaklığın dağılışı üzerinde aşağıdaki faktörlerden hangisinin etkisi daha fazladır?

- A) Enlem B) Bakı
C) Yükselti D) Yerçekilleri

12.



Görseldeki I ve II numaralı basınç merkezleriyle ilgili verilen bilgilerden hangisi yanlıştır?

- A) I, Kuzey Yarım Küre'dedir
B) I, alçak basınç alanıdır
C) II, Güney Yarım Küre'dedir
D) II' de hava hareketi çevreden merkezedir

13. Aşağıdakilerden hangisi Akdeniz çevresinde etkili olan sıcak yerel rüzgârlardandır?

- A) Hamsin B) Mistral
C) Poyraz D) Bora

14. Aşağıdakilerden hangisi yeryüzünde yağışın dağılışını etkileyen faktörlerden biri değildir?

- A) Yerçekilleri B) Toprak çeşitleri
C) Denizellik D) Yükselti

15. Aşağıdaki ülkelerden hangisinde Muson iklimi görülür?

- A) İspanya B) İngiltere
C) Hindistan D) Brezilya

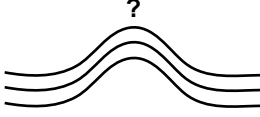
1. OTURUM

(155) COĞRAFYA – 5

16. Ege Denizi hangi jeolojik zamanda ortaya çıkmıştır?

- A) Paleozoik B) Prekambriyen
C) Mezozoik D) Neozoik

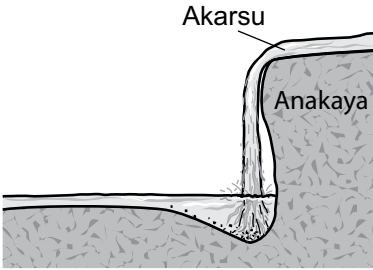
17.



Kesiti verilen görselde, kıvrılma ile oluşmuş dağın kubbemsi kısımlarına ne ad verilir?

- A) Senklinal B) Antiklinal
C) Horst D) Graben

18.



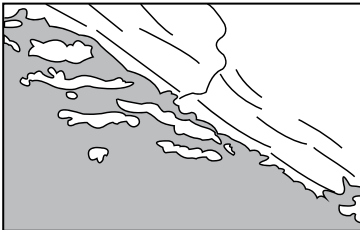
Görseldeki gibi akarsuyun yüksekten düşerek oluşturduğu aşınma çukurluğuna ne ad verilir?

- A) Dev kazanı B) Çentik vadi
C) Kırgıbayır D) Menderes

19. Aşağıdakilerden hangisi karstik birikim şeklidir?

- A) Polye B) Obruk
C) Dolin D) Sarkıt

20.



Dağların kıyıya paralel uzandığı yerlerde, deniz yükselmesi sonucu dağ ve tepelerin ada halini aldığı kıyı tipinin adı nedir?

- A) Enine B) Fiyortlu
C) Dalmaçya D) Ria

1. Aşağıdakilerden hangisi canlıların yeryüzüne dağılımını etkileyen paleocoğrafyaya ait özelliklerden biridir?

- A) İnsan B) Yer şekilleri
C) Toprak D) İklim değişikliği

2. Biyoçeşitlilik açısından zengin olan bölge hangisidir?

- A) Çöl Bölgesi B) Kutup Bölgesi
C) Tundra Bölgesi D) Ekvatorial Bölge

3. Aşağıdakilerden hangisi diğerlerinden daha fazla enerji kullanır?

- A) Geyik B) Aslan
C) Bakteri D) Tavşan

4. İnorganik maddelerin, cansız ortamdan alınıp canlı unsurlar arasında aktarıldıktan sonra tekrar cansız ortama bırakılmasına ne ad verilir?

- A) Enerji akışı B) Biyoçeşitlilik
C) Besin zinciri D) Madde döngüsü

5. Oksijenin açığa çıkmasını sağlayan olay aşağıdakilerden hangisidir?

- A) Suyun fotolizi B) Petrolün yanması
C) Kömürün yanması D) Organik maddelerin oksidasyonu

6. Aşağıdaki ülkelerin hangisinde nüfus artış hızını azaltmaya yönelik politika uygulanmaktadır?

- A) Fransa B) Endonezya
C) Danimarka D) Almanya

7. Doğal nüfus artışının diğerlerinden az olduğu bölge hangisidir?

- A) Asya'nın güneyi B) Avrupa'nın batısı
C) Orta Amerika D) Afrika'nın orta kesimi

8. Şehirlerin etki alanı hangisinde doğru verilmiştir?

OXFORD KAHİRE BAYBURT

- A) Bölgesel Küresel Yerel
B) Küresel Yerel Bölgesel
C) Küresel Bölgesel Yerel
D) Yerel Küresel Bölgesel

9. New York'un küresel etkiye sahip olmasında hangi özelliği daha ön plana çıkmıştır?

- A) Finans B) Maden
C) Tarım D) Ulaşım

10. Aşağıdaki şehirlerden hangisi liman fonksiyonu ile tanınır?

- A) Moskova B) Yeni Delhi
C) Marsilya D) Paris

11. Aşağıdakilerden hangisi tüketimi etkileyen faktörlerden biridir?

- A) Gelir düzeyi B) Sanayinin etkisi
C) Sermaye birikimi D) İş gücü kaynakları

12. Aşağıdaki şehirlerin hangisinde petrol rafinerisi yoktur?

- A) İzmir B) İstanbul
C) Kocaeli D) Batman

13. I. Rüzgar

- II. Dalga
III. Güneş
IV. Doğal gaz

Yukarıdakilerden hangisi tükenen kaynaklardandır?

- A) I B) II C) III D) IV


14. Doğal kaynaklar yönünden fakir ancak sermaye, iş gücü ve teknoloji açısından zengin ülkeler dışarıdan hammadde alıp işleyerek açıklarını kapatır.

Aşağıdaki ülkelerden hangisi bu duruma örnek gösterilebilir?


- A) Moğolistan B) Japonya
C) Rusya D) Nijerya

1. OTURUM

(157) COĞRAFYA – 7

15. Gökalp yarıyıl tatilinde kış sporları yapmak istiyor.
Buna göre tatil planında aşağıdaki dağlardan hangisinin bulunmaması gerekir?
- A) Yıldız Dağları
B) Erciyes Dağı
C) Uludağ
D) Palandöken Dağı
16. Ülkemizde makinalı tarımın en az yapıldığı yerlerden biri aşağıdakilerden hangisidir?
- A) İç Anadolu
B) Doğu Karadeniz
C) Güney Marmara
D) Güneydoğu Anadolu
17. 
- Haritada üretim alanları noktalarla gösterilen tarım ürünü aşağıdakilerden hangisidir?**
- A) Fındık
B) İncir
C) Zeytin
D) Arpa
18. Türkiye'nin rezerv bakımından Dünya'da birinci sırada olduğu maden hangisidir?
- A) Demir
B) Bakır
C) Krom
D) Bor
19. Aşağıdaki şehir-sanayi eşleştirmelerinden hangisi yanlıştır?
- A) Bolu – Otomotiv sanayi
B) Aydın – Konserve sanayi
C) Denizli – Pamuklu dokuma
D) Karabük – Demir-çelik sanayi
20. Aşağıdaki illerin hangisinde çiğ riski daha yüksektir?
- A) Yozgat
B) Ankara
C) Ağrı
D) Çanakkale

1. Aşağıdakilerden hangisi iklimolojik kökenli ekstrem doğa olaylarından biridir?
- A) Tsunami
B) Fırtına
C) Deprem
D) Volkanizma
2. Aşağıdakilerden hangisi kuraklığın etkilerinden biri değildir?
- A) Tarımsal üretimin azalması
B) Orman yangınlarının yaşanması
C) Bitki örtüsünün zarar görmesi
D) Kirlı suların temiz sulara karışması
3. Dünya'nın en uzun su altı tüneli olan Manş Tüneli hangi ülkeler arasındadır?
- A) İspanya – İtalya
B) İsveç – Almanya
C) İngiltere – Fransa
D) Hollanda – Danimarka
4. Aşağıdakilerden hangisi küresel ısınmadan dolayı ortaya çıkabilecek sorunlardan biri değildir?
- A) Buzulların erimesi ile okyanusların ve denizlerin tuzluluk oranının değişmesi
B) İklim şartlarının değişmesiyle bitki ve hayvan türlerinin yaşam alanının genişlemesi
C) Okyanus ve denizlerdeki akıntı sisteminin değişmesi
D) Akıntı sisteminin değişmesi ile iklim koşullarının değişmesi
5. Mısır uygarlığının gelişmesinde aşağıdakilerden hangisinin etkisi olmamıştır?
- A) Uygun iklim şartlarının
B) Nil Nehri'ne sahip olmasının
C) Madencilik faaliyetlerinin
D) Verimli topraklara sahip olmasının
6. Büyük okyanus kıyılarına paralel uzanan And Dağları üzerinde yaşamışlardır. Astronomik gözlemler yaparak güneşin yıllık hareketlerini inceleyip, güneş saatini yapan medeniyet aşağıdakilerden hangisidir?
- A) İnka
B) Maya
C) Fenike
D) Lidya

7. Sümerler aşağıdakilerden hangisini ilk kullanan medeniyettir?
- A) Tekerleği
B) Yazıyı
C) Pusulayı
D) Barutu
8. Sanayileşen ülkelerde şehirleşme oranı yüksektir.
Buna göre aşağıdaki ülkelerden hangisinde şehirleşme oranı diğerlerinden düşüktür?
- A) Etiyopya
B) Fransa
C) İngiltere
D) Almanya
9. Dünya ekonomisinin geleceği için aşağıdakilerden hangisi söylenemez?
- A) Hizmetlerin ucuzlaması
B) Ticari örgütlenme ile dünya pazarı oluşması
C) Daha kısa sürede, daha kaliteli ve daha çok üretim yapılması
D) Ürünlerin tüketim merkezine ulaşmasının zorlaşması
10. Aşağıdakilerden hangisi doğal faktörlere göre oluşturulan bölgelere örneklerdir?
- A) Plato bölgesi
B) Serbest ticaret bölgesi
C) Turizm bölgesi
D) Toplu yerleşme bölgesi
11. Aşağıdaki şehir-bölge eşleştirmelerinden hangisi yanlıştır?
- A) Adana – Ovalık bölge
B) Toroslar – Dağlık bölge
C) Giresun – Akdeniz iklim bölgesi
D) Zonguldak – Maden bölgesi
12. 
- Türkiye haritasında işaretlenen yerlerden hangileri seyrek nüfuslu alanlardır?**
- A) I ve II.
B) II, III ve V.
C) III ve IV.
D) I, IV ve V.
13. Aşağıdakilerden hangisi ulaşımı etkileyen doğal faktörlerden biridir?
- A) Teknoloji
B) Yerçekilleri
C) Sermaye
D) İnsan

1. OTURUM

(181) İNGİLİZCE – 1

1 - 20. sorularda boş bırakılan yere uygun gelen kelime ya da ifadeyi işaretleyiniz.

14. Yolcu ve yük taşımacılığı açısından Türkiye'de ilk sırada yer alan ulaşım sistemi hangisidir?

- A) Demiryolu B) Denizyolu
C) Havayolu D) Karayolu

15. Türkiye'nin ihracatında ilk sırayı alan ülke hangisidir?

- A) İspanya B) Rusya
C) Hindistan D) Almanya

16. Aşağıdakilerden hangisi ticareti olumlu etkileyen unsurlardandır?

- A) Tüketimin çok olması
B) Yerleşmenin dağınık olması
C) Gelir düzeyinin düşük olması
D) Ulaşım ağının gelişmemiş olması

17. Ülkemizde turist sayısı ve turizm geliri bakımından ilk sırada yer alan turizm türü aşağıdakilerden hangisidir?

- A) Deniz turizmi B) Kış turizmi
C) Yayla turizmi D) Sağlık turizmi

18. Denizli'deki Pamukkale travertenlerinde gelişme gösteren turizm faaliyetinin sınıfı ile aşağıdakilerden hangisi benzerlik gösterir?

- A) Çanakkale – Truva
B) İstanbul – Ayasofya
C) Nevşehir – Peribacaları
D) Adıyaman – Nemrut Heykelleri

19. Aşağıdaki merkezlerden hangisinde turizm etkinliği başka bir nedene dayanır?

- A) Palandöken B) Erciyes
C) Uludağ D) Kaçkar

20. Aşağıda yapılan şehir - turizm eşleştirmelerinden hangisi yanlıştır?

- A) Erzurum – Kış turizmi
B) Afyon – Termal turizm
C) Konya – Rafting turizmi
D) Denizli – Yer şekilleri turizmi

8. There are - - - - animals in the zoo.

- A) a B) an
C) any D) a lot of

9. - - - - plays football after school every day.

- A) I B) He C) We D) You

10. Tracey : - - - - do you get up in the mornings?

Cobie : At 8 a.m.

- A) Where B) How old
C) What time D) How much

11. Ann : How often do you go shopping?

Meg : - - - - .

- A) Once a week B) Tomorrow
C) Yesterday D) This week

12. Bill : I am cold.

Nash : - - - - the windows, please.

- A) Turn on B) Go off
C) Close D) Open

13. John : I am looking for my new trousers. - - - - are they?

Smith : They are on the bed.

- A) Where B) When
C) What D) Who

14. My parents are on holiday now. - - - - are in Marmaris.

- A) They B) Your
C) Our D) His

15. Amanda : - - - - dictionary is this?
Susan : It is my dictionary.

- A) How many B) How much
C) Whose D) Why

16. Watch out! You will - - - - your hand.

- A) write B) burn
C) visit D) call

17. My son - - - - studying English now.

- A) am B) is C) are D) will

1. - - - - you got a pet?

- A) Do B) Has
C) Have D) Does

2. Matt : What is the day today?
Tony : - - - - .

- A) Sunday B) Every day
C) Yesterday D) Next Friday

3. There - - - - two banks in the city center.

- A) is B) are
C) was D) will

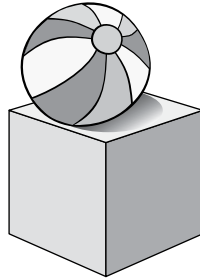
4. Jeff : How old is your mother?
Tom : - - - - .

- A) He is thirty years old
B) She is forty years old
C) I am twenty years old
D) You are fifty years old

5. - - - - a supermarket near here?

- A) Is there B) There is
C) Are there D) There are

6.



The ball is - - - - the box.

- A) between B) under
C) on D) in

7. Mary is singing and Peter is listening to - - - - .

- A) he B) his
C) she D) her

1. OTURUM

18. Look at those black clouds. It ---- going to rain soon.

- A) does B) are
C) do D) is

19. My father ---- have dark hair in the past but now he doesn't.

- A) used to B) should
C) was D) could

20. Daniel : ---- can I get to the hospital?

Noah : Go along this road. It is on your right.

- A) How much B) What time
C) Where D) How

(181) ALMANCA – 1

1-17. sorularda boş bırakılan yere uygun gelen ek, kelime ya da ifadeyi işaretleyiniz.

1. Vier Wochen sind ----.

- A) ein Tag B) eine Woche
C) ein Monat D) ein Jahr

2. ---- Juli fahren wir zu meiner Tante nach Side.

- A) Im B) Am
C) Um D) Bei

3. 18, ----, 20

- A) Siebzehn
B) Neunzehn
C) Einundzwanzig
D) Neunzig

4.



Wie spät ist es?
Es ist ----.

- A) Viertel nach acht.
B) halb acht
C) Viertel vor acht
D) Viertel vor neun

5. Die Kind- ---- spielen auf dem Spielplatz.

- A) -e B) -es
C) -en D) -er

6. Dienstag, ----, Donnerstag

- A) Montag B) Freitag
C) Mittwoch D) Sonntag

7. Sabine ist kürzer ---- Serap.

- A) als B) bis
C) so D) um

8. Ahmet : Thomas, kannst du mir dein Heft ---- ?

Thomas: Ja, gerne.

- A) gebe B) gibt
C) geben D) gibst

9.



A: Ist das ein Lastwagen?
B: Nein, es ist ein ----.

- A) Auto B) Bus
C) Zug D) Flugzeug

10. A: ---- du auch Fußball?

B: Ja, ich ---- Fußball.

- A) Spielst / spiele
B) Spielt / spielen
C) Spielt / spiele
D) Spielen / spielst

11. A: Wo arbeitet dein- ---- Mutter?

B: Sie arbeitet ---- einer Schule.

- A) -er / um B) -e / ins
C) -en / auf D) -e / in

12. A: ---- gehen wir ins Theater?

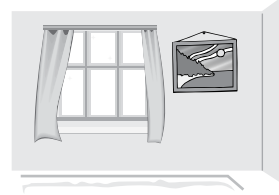
B: Am Samstag.

- A) Wo B) Wann
C) Wie D) Wer

13. Ali, du kannst heute ---- uns schlafen.

- A) um B) bei
C) im D) zu

14.



A: Wo ist das Bild?

B: Es ist ---- dem Fenster.

- A) über B) unter
C) im D) neben

15. ---- 9 Uhr müssen wir in der Schule sein.

- A) Bei B) Zu
C) Um D) Im

16. A: ---- wir zusammen Hausaufgaben machen?

B: Ja.

- A) Können B) Kannst
C) Kann D) Konnte

17.



Das sind ----.

- A) Äpfel B) Birnen
C) Zitronen D) Bananen

18. Aşağıdaki sıfatlardan hangisinin zıt anlamı yanlış verilmiştir?

- A) viel x wenig B) gut x schlecht
C) groß x größer D) kurz x lang

19. Aşağıdakilerden hangisi anlamca diğerlerinden farklıdır?

- A) Tee B) Brot
C) Kaffee D) Milch

20. Aşağıda verilen sıfatlardan hangisinin çekimi yanlıştır?

- | | Positiv | Komparativ | Superlativ |
|----|---------|------------|---------------|
| A) | kurz | kürzer | am kürzesten |
| B) | warm | wärmer | am wärmsten |
| C) | billig | billiger | am billigsten |
| D) | viel | vieler | am vielsten |

1. OTURUM

(181) FRANSIZCA – 1

1-16. sorularda boş bırakılan yere uygun gelen kelime ya da ifadeyi işaretleyiniz.

1. - - - - aiment la cuisine italienne.

- A) Elles B) Nous
C) Elle D) Vous

2. Hier soir, - - - - est rentrée à 20 h.

- A) elle B) tu
C) je D) il

3. Filiz - - - - en France par avion avec la compagnie Turkish Airlines.

- A) est arrivé B) suis arrivé
C) es arrivé D) est arrivée

4. Dimanche dernier, mon frère - - - - acheté le nouveau CD de Sıla.

- A) as B) a
C) es D) est

5. Ils - - - - sortis du cinéma.

- A) ont B) est
C) sont D) êtes

6. Kenan a passé - - - - à Samsun.

- A) le visage B) la nuit
C) les yeux D) la rue

7. Il a plu - - - - la semaine à Mersin.

- A) aucun B) personne
C) toute D) chaque

8. Elles ont - - - - professeur que l'an dernier.

- A) les mêmes B) certaine
C) la même D) le même

9. A: Serpil est fiancée ?

B: Oui, - - - -.

- A) elle est jeune
B) elle est veuve
C) elle est fiancée
D) elle est mariée

10. Si j'étais jeune, je - - - - le tour du monde à moto.

- A) ferais B) ai fait
C) faisais D) ont fait

11. S'il ne fait pas froid, ils - - - - à la campagne.

- A) étaient allés B) étaient allées
C) est allé D) iront

12. A: Tu travailles en Allemagne ?
B: Non, je - - - - en Allemagne.

- A) ne pas travailler
B) ne travaille pas
C) ne travaillent pas
D) travailler

13. A: Tu as déjà lu ce roman ?
B: Oui, je - - - - ai lu la semaine dernière.

- A) le (l') B) lu
C) leur D) la (l')

14. A: Tu aimes les films policiers ?
B: Oui, je - - - - aime beaucoup.

- A) le (l') B) des
C) les D) de la

15. A: Tu prends du thé ?
B: Non, je ne prends pas - - - - thé.

- A) des B) de la
C) du D) de

16. Un peigne sert à - - - -.

- A) manger B) se coiffer
C) boire D) se lever

17. "Mon grand-père a 85 ans."
cümlesinde altı çizili sayının yazılışı hangisidir ?

- A) quatre-vingt-cinq
B) quatre-vingts
C) soixante-six
D) cinquante-cinq

18-20. sorularda verilen resme göre doğru ifadenin bulunduğu seçeneği işaretleyiniz.

18.



- A) Il a une casquette et il porte des lunettes.
B) Il a de la barbe et il porte une casquette.
C) Il a une moustache et il porte une montre.
D) Il a les lèvres minces et il porte une casquette.

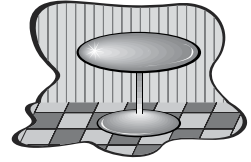
19.



Elle est très - - - -.

- A) sportif B) musclé
C) sympa D) paresseux

20.



La table est - - - -.

- A) ronde B) carrée
C) long D) pointu

(244) İNGİLİZCE – 5

1 - 20. sorularda boş bırakılan yere uygun gelen kelime ya da ifadeyi işaretleyiniz.

1. The development of technology made our lives easier but it also brought some - - - -.

- A) disadvantages
B) decisions
C) buildings
D) forests

2. What - - - - you doing yesterday evening?

- A) did B) was C) have D) were

1. OTURUM

3. I was playing football - - - - the rain started.

- A) since B) when
C) while D) after

4. We went to the cinema and watched a film - - - - .

- A) in ten minutes
B) at the moment
C) two days ago
D) next Monday

5. Ethan : - - - - she sleep well yesterday?

Tom : No, she - - - - .

- A) Did / didn't B) Will / won't
C) Has / hasn't D) Was / wasn't

6. - - - - my sister was listening to music, I was studying for my exam.

- A) Did B) During
C) While D) How

7. Earl : - - - - have you lived in Africa?

Ruby : For three years.

- A) Where B) How long
C) How many D) What time

8. I have been a teacher since - - - - .

- A) three months
B) many years
C) a long time
D) last year

9. The weather - - - - freezing cold since October.

- A) have been B) has been
C) were D) did

10. There - - - - a cinema in the town but now there isn't.

- A) used to be B) have been
C) will be D) were

11. The train will arrive at 7 p.m. - - - - .

- A) since the morning
B) last week
C) tomorrow
D) yesterday

12. Don't speak loudly, - - - - ?

- A) were you B) will you
C) did you D) do you

13. Let's go to the cinema, - - - - ?

- A) must we B) have we
C) shall we D) are we

14. She can ride a horse, - - - - ?

- A) can't she B) will she
C) could she D) couldn't she

15. He never drinks cold water, - - - - ?

- A) did he B) does he
C) didn't he D) doesn't he

16. This jacket is - - - - than that one.

- A) cheaper B) weaker
C) slower D) faster

17. Jack is - - - - handsome than Alex.

- A) the most B) much
C) more D) many

18. The film was - - - - than we expected.

- A) further B) better
C) good D) bad

19. My mother drives more - - - - than my father.

- A) early B) hardly
C) clearly D) slowly

20. Susan : I don't know how to use this computer.

Abby : Don't worry. I - - - - teach you.

- A) was B) did C) have D) will

(244) ALMANCA – 5

1-18. sorularda boş bırakılan yere uygun gelen ek, kelime ya da ifadeyi işaretleyiniz.

1. A: Wo möchtest du wohnen, in Ankara - - - - in Istanbul?

B: In Istanbul.


- A) weil B) aber
C) bis D) oder

2. A: Wann - - - - du Arzt werden?

B: In zwei Jahren.

- A) wirst B) bist
C) hast D) machst

3.



A: Wie spät ist es?

B: Es ist - - - - .

- A) Viertel nach vier
B) Viertel vor fünf
C) halb vier
D) halb fünf

4. Ich ging in den Kindergarten - - - - ich 3 Jahre alt war.

- A) ob B) wo
C) als D) denn

5. A: Susanne ist 15 Jahre alt. Wie alt - - - - du?

B: Ich bin auch 15.

- A) sind B) bin C) ist D) bist

6.



Nr. 40



Nr. 42

Ich habe Schuhgröße 40. Ahmet hat Schuhgröße 42.

Meine Schuhgröße ist - - - - als Ahmet seine.

- A) groß B) klein
C) kleiner D) größer

1. OTURUM

7. Im Unterricht - - - - man dem Lehrer gut zuhören.

- A) soll B) ist
C) hat D) kannst

8. - - - - Montag fahren wir ins Museum.

- A) Im B) Am C) Um D) Zum

9. Die Mutter - - - - die Wohnung.

- A) kocht B) spielt
C) läuft D) putzt

10. Wir sind von Kızılay nach Ulus zu Fuß - - - - .

- A) gehen B) ging
C) gegangen D) geht

11. A: Seid ihr mit dem Bus nach Antalya gefahren?

B: Nein, wir sind - - - - mit dem Bus gefahren.

- A) nicht B) doch
C) haben D) noch

12.



Das Café ist - - - - dem Supermarkt.

- A) im B) neben
C) über D) zwischen

13. Am Montag - - - - 9 Uhr haben wir eine Deutschprüfung.

- A) am B) um C) zum D) im

14. Die deutsche Fußballmannschaft spielt - - - - als ihr Gegner.

- A) gut B) schlecht
C) besser D) kleiner

15. Ich möchte auch ein Lied - - - - .

- A) singe B) singst
C) singt D) singen

16. Ali ist 60 kg schwer. Markus ist 70 kg schwer.

Markus ist - - - - als Ali.

- A) schwerer B) gleich
C) leichter D) genauso

17. Hasan - - - - seinem Lehrer ein Brief in Deutsch.

- A) schreiben B) schreibst
C) schrieb D) geschrieben

18. Nach der Zahl 19 kommt - - - - .

- A) achtzehn B) zwanzig
C) siebzehn D) dreißig

19. Aşağıdakilerin hangisinin Almanca karşılığı yanlış verilmiştir?

- A) daha çok x mehr
B) daha yavaş x langsamer
C) daha kısa x kürzer
D) daha pahalı x billiger

20. Welches ist ein Monat im Frühling?

- A) März B) Dezember
C) Juli D) September

(244) FRANSIZCA – 5

1-20. sorularda boş bırakılan yere uygun gelen kelime ya da ifadeyi işaretleyiniz.

1. Sont- - - - - arrivés à l'aéroport en taxi ?

- A) nous B) ils
C) vous D) elles

2. - - - - - veux me reposer au bord de la mer.

- A) Je B) Il
C) Elle D) Ils

3. Tarkan est un chanteur - - - - - chante aussi en anglais.

- A) ce que B) que
C) ce qui D) qui

4. Voilà l'hôpital - - - - - mon fils est né il y a trois ans.

- A) où B) qui
C) que D) quoi

5. La veste - - - - - je porte est en laine.

- A) que B) où
C) qui D) ce que

6. - - - - - il fait beau, mon père va à la chasse avec son chien.

- A) Pourquoi B) Comment
C) Combien D) Quand

7. Je - - - - - restée au Japon pendant une année.

- A) sommes B) ont
C) suis D) avez

8. Nous irons - - - - - ensemble pour nager.

- A) à la montagne
B) à la mer
C) au cinéma
D) au restaurant

9. - - - - - il est sorti du bureau d'assurance à 10 heures.

- A) Lundi dernier
B) Mercredi prochain
C) Demain matin
D) Le mois prochain

10. C'est le lycée - - - - - je suis le directeur.

- A) qui B) dont C) que D) où

11. Isabelle écoute de la musique - - - - - le journal.

- A) lire B) lisait
C) lisant D) en lisant

12. M. Duval - - - - - dans le parc national, étudie la nature.

- A) racontant B) apportant
C) travaillant D) rencontrant

13. Pendant mes - - - - - en bateau sur le Bosphore, je bois du café.

- A) livres B) animaux
C) promenades D) magazines

1. OTURUM

14. M. Dupond soigne les animaux, il est - - - - .

- A) mécanicien
B) vétérinaire
C) pompier
D) chauffeur de taxi

15. Si tu es végétarien, alors tu ne manges pas de - - - - .

- A) bifteck
B) carottes
C) pommes
D) tomates

16. Metin est fatigué - - - - il a beaucoup travaillé.

- A) comment
B) combien
C) pourquoi
D) parce qu'

17. Nous - - - - marché toute la nuit.

- A) sommes
B) ont
C) allons
D) avons

18. - - - - Turquie, on roule - - - - droite.

- A) En / à
B) À / en
C) Au / aux
D) Aux / à

19. Paul : - - - - travaillez-vous ?
Can : À Istanbul.

- A) Quand
B) Comment
C) Où
D) Pourquoi

20. Il mange en - - - - la télévision.

- A) regardé
B) regardant
C) regardait
D) regarder

(401) DİL VE ANLATIM – 1

1. Aşağıdakilerden hangisi iletişimin temel öğelerinden değildir?

- A) Kaynak
B) Dönüt
C) Mesaj
D) Alıcı

2. Anne: Evladım, ödevini yaptın mı?
Çocuk: Evet, az önce bitirdim.
Anne: Aferin!

Bu iletişim örneğinde aşağıdaki öğelerden hangisi belirgin değildir?

- A) Gönderici
B) Alıcı
C) Ortam
D) İleti

3. Dilin en önemli özelliği toplumdaki insanlar arasında anlaşma sağlayan sosyal bir kurum olmasıdır. Dilin kendine göre birtakım yasaları vardır. İhtiyaçlar doğrultusunda dilde yeni sözcükler türetilir; kullanılan bazı sözcükler anlam kaymasına uğrar. Kullanılmayan sözcükler de unutulup gider. Bu bakımdan dil canlı bir varlıktır.

Bu parçada "dil" ile ilgili aşağıdakilerden hangisine değilmemiştir?

- A) Yaşayan bir varlık olduğuna
B) Kurallarının bulunduğu
C) Değişime uğrayabileceğine
D) Korunması gerektiğine

4. Türkçemizde "yavuz" sözcüğü eskiden kötü bir anlam taşımaktayken günümüzde iyi bir anlam taşıdığını görmekteyiz.

Dildeki bu değişim dil bilgisinin hangi kolunun inceleme alanına girer?

- A) Anlam bilim (semantik)
B) Cümle bilgisi (sentaks)
C) Ses bilgisi (fonetik)
D) Biçim bilgisi (morfoloji)

5. Bir ülkede resmî yazışmalarda, gazete ve dergi yazılarında kullanılan dile - - - - denir.

Bu cümlede boş bırakılan yere aşağıdakilerden hangisi getirilmelidir?

- A) konuşma dili
B) ağız
C) yazı dili
D) argo

6. En etkili iletişim aşağıdakilerden hangisiyle yapılır?

- A) İşaret
B) Jest ve mimik
C) Bakış
D) Dil

7. Aşağıdakilerden hangisi eklemeli dillerdendir?

- A) Rusça
B) Türkçe
C) İngilizce
D) Arapça

8. • Ünlü uyumu vardır.
• Sözcüklerde dil bilgisi bakımından erkek ve dişi tür ayrımı vardır.
• Bazı ekler çekim eki olmalarına rağmen yapım eki olarak da kullanılabilir.

Ural-Altay dilleriyle ilgili verilen bu cümleler doğru-yanlış olarak değerlendirildiğinde sıralama aşağıdakilerden hangisi olur?

- A) D – D – Y
B) Y – Y – D
C) D – Y – D
D) Y – D – D

9. Türkçenin kendine özgü kurallarının oluşmadığı dönemdir. Bu dönemde Türkçe-Moğolca dil birliği görülür.

Bu parçada hakkında bilgi verilen dönem aşağıdakilerden hangisidir?

- A) İlk Türkçe Çağı
B) Eski Türkçe Çağı
C) Orta Türkçe Çağı
D) Altay Çağı

10. Aşağıdakilerden hangisi Türkçenin gelişmesine katkı sağlayan eserlerden biri değildir?

- A) Kutadgu Bilig
B) Şehname
C) Divanü Lügati't Türk
D) Atabet'ül Hakayik

11. En geniş anlamıyla konuşmayı sağlayan hareketlerin tümüne - - - - denir.

Bu cümlede boş bırakılan yere aşağıdakilerin hangisi getirilmelidir?

- A) telaffuz
B) argo
C) vurgu
D) jargon

12. Aşağıdaki sözcüklerin hangisi küçük ünlü uyumuna uymamaktadır?

- A) Yürüyerek
B) Bilinçlenmek
C) Boyadılar
D) Fotoğrafçılık

13. Aşağıdaki sözcüklerin hangisinin büyük ünlü uyumuna uymama nedeni diğerlerinden farklıdır?

- A) Hikâyecilik
B) Orijinal
C) Turizmin
D) Karşıdaki

14. Aşağıdaki cümlelerin hangisinde ünsüz benzeşmesine (sertleşmesine) uymamaktan kaynaklanan bir yazım yanlışı yapılmıştır?

- A) Kulağıma hafifçe bir müzik sesi çalındı.
B) Bu tür durumlara alışgın bir çocuk değil o.
C) Gittikçe şiddetlenen bir seldi bu.
D) Gençken inşaatlarda işçilik yapmıştım.

15. Aşağıdaki sözcüklerden hangisi ünlüyle başlayan bir ek aldığına ünsüz yumuşamasına uğramaz?

- A) Hukuk
B) Ağaç
C) Renk
D) Kâğıt

1. OTURUM

(402) DİL VE ANLATIM – 2

16. I. Türkçe kökenli sözcüklerde uzun ünlü bulunmaz.
II. Türkçe kökenli sözcüklerin büyük ve küçük ünlü uyumuna uyma zorunluluğu yoktur.
III. Türkçe kökenli bir sözcükte iki ünlü harf yan yana gelebilir.
IV. Türkçe kökenli sözcükler h, f, l, r sesleri ile başlamaz.
- Numaralanmış özelliklerden hangileri Türkçe için doğrudur?**
- A) I ve II. B) I ve IV.
C) II ve III. D) III ve IV.
17. Aşağıdakilerin hangisinde büyük harflerin kullanımıyla ilgili bir yazım yanışı yapılmıştır?
- A) Bizim Ahmet iki ay sonra Konya'ya taşınacakmış.
B) Bizim diyemediklerimizi Muhtar Hasan Ağa söyledi.
C) ODTÜ'yü kazandığınızı duydum.
D) 1965 eylülde dünyaya gelmişim.
18. Aşağıdakilerin hangisinde "de, da" nın yazımı ile ilgili bir yanlışlık yapılmıştır?
- A) Onun Bursalı olduğunu kimsede bilmiyordu.
B) Bizimle gelse de olur gelmese de.
C) Aklında yine neler var senin?
D) Kar da o gece çok şiddetli yağıyordu.
19. Aşağıdaki cümlelerin hangisinin sonuna nokta (.) getirilemez?
- A) Hayatın kıymetini en iyi yaşlılar biliyor
B) Onun en önemli eserleri burası
C) Neden insanlar beni anlamıyor
D) Boğaz'ın altında şiddetli bir akıntı varmış
20. Aşağıdaki cümlelerin hangisinde yay ayrıla belirtilen yere iki nokta (:) getirilmelidir?
- A) Kuşlar cıvı cıvı ötüşüyor () arılar telaşlı telaşlı vızıldıyordu.
B) Onun en önemli eserleri şunlardır () Kiralık Konak, Yaban.
C) Ay pırıl pırıldı o akşam, yıldızlar sayılıyordu () dostum çok sıkılmış görünüyor, hiç konuşmuyordu.
D) Ben ne konuşursam konuşayım, kim beni anlar ki ()

1. Ne doğan güne hükmüm geçer,
I
Ne hâlden anlayan bulunur;
II
Ah aklımdan ölümüm geçer;
III IV
Sonra bu kuş, bu bahçe, bu nur.

Bu dizelerde numaralanmış sözcüklerden hangisinin kökü tür bakımından diğerlerinden farklıdır?

A) I. B) II. C) III. D) IV.

2. Aşağıdaki cümlelerde altı çizili sözcüklerin hangisi farklı bir yapım eki almıştır?

A) Çocuğun başlığının rengi çok değişti.
B) Kuruma gelecek ay işçi alımı yapılacaktır.
C) Burada çok farklı bitkiler var.
D) O, akıllı bir çocuğa benziyor.

3. Aşağıdaki sözcüklerden hangisi türemiş yapı değildir?

A) Bahçelerde B) Sessizliğin
C) Güçsüzleşmek D) Suskun

4. Aşağıdaki cümlelerin hangisinde temel anlamıyla somutken soyut anlamda kullanılmış bir sözcük vardır?

A) Hüzün, birçok şaire ilham verir.
B) Olaylara farklı pencerelerden bakmalısın.
C) Onun açıklamaları zihinlerimizi karıştırdı.
D) Dışarıda güneşli ve pırıl pırıl bir hava vardı.

5. Aşağıdaki cümlelerde altı çizili sözcüklerin hangisi mecaz anlamda kullanılmıştır?

A) Kardeşimin boş bakışları beni enişelendirmişti.
B) Salon bu seansta ağzına kadar doluydu.
C) Açık kalan pencereden içeriye serçe girmiş.
D) Sıcak çayın verdiği tadı hiçbir şeyden alamam.

6. Aşağıdaki cümlelerde yer alan altı çizili sözcüklerin hangisinin sestesi yoktur?

A) Dışarıdan bir el silah sesi duyuldu.
B) Kapıda ak saçlı bir ihtiyar belirdi.
C) Sana kaç kere oraya gitme dedim!
D) Çocuklar ağız birliği etmişlerdi.

7. I. Arkadaşım er geç dediğimizi yapacaktı.
II. Verdiğiniz adresi zar zor bulduk.
III. Babamın iyi kötü bir işi vardı çok şükür.
IV. Buraya eninde sonunda gelecek.

Numaralanmış cümlelerdeki altı çizili sözlerden hangileri yakın anlamlıdır?

A) I ve II. B) I ve IV.
C) II ve III. D) III ve IV.

8. Eskiden mal mülk anlamında kullanılan tavar (davar) sözcüğü günümüzde sadece koyun, keçi sürüsü anlamında kullanılmaktadır.

Bu durum aşağıdakilerden hangisine örnektir?

A) Anlam daralmasına
B) Somutlamaya
C) Anlam kötüleşmesine
D) Anlam iyileşmesine

9. Öğretmenimiz, o gün çok öfkeliydi. Korkudan yanına yaklaşamıyorduk, - - - - âdeta.

Bu parçanın sonuna anlam akışına uygun olarak aşağıdaki deyimlerden hangisi getirilmelidir?

A) burnundan kıl aldırılmıyordu
B) burnunun dikine gidiyordu
C) burnunun ucunu görmüyordu
D) burnundan soluyordu

10. Aşağıdaki cümlelerde kullanılan ikilemelerin hangisi oluşum bakımından diğerlerinden farklıdır?

A) Adamcağız yana yakıla bir şeyler anlatıyordu.
B) Yalan yanlış sözlerinle bizi kandıramazsın.
C) İşlerimiz iki aydır ağır aksak ilerliyor.
D) Çocuk, ceplerine irili ufaklı taşları doldurmuş.

1. OTURUM

(407) DİL VE ANLATIM – 7

11. Aşağıdaki cümlelerin hangisinde zincirleme isim tamlaması kullanılmıştır?

- A) Eski muhtarımızın oğlu muhtarlık için aday olacaktı.
- B) Kapının önünde âdeta insan seli birikti.
- C) Karne günlerinin sevinci bir başka olurdu.
- D) Kuş sesleri biraz olsun canlandırdı bizi.

12. Aşağıdaki cümlelerin hangisinde altı çizili bölüm cümlenin öznesi değildir?

- A) En güzel günler genelde çocuklukta yaşanır.
- B) Kitabın yirminci sayfasında ilginç bir hikâye var.
- C) Onun alaycı bakışlarına bir türlü alışamadım.
- D) Bir korna sesi mahallenin sükûnetini bozdu.

13. Samiha Ayverdi, birçok romanında kültürel öğeleri işler.

Bu cümlelerin öge dizilişi aşağıdakilerden hangisidir?

- A) Özne – Nesne – Dolaylı tümleç – Yüklem
- B) Özne – Dolaylı tümleç – Nesne – Yüklem
- C) Özne – Nesne – Yüklem
- D) Özne – Zarf tümleci – Nesne – Yüklem

14. Geleneksel Anadolu mutfağımızın vazgeçilmez gıdalarının başında gelir kuru baklagiller.

Bu cümlelerin özellikleri aşağıdakilerin hangisinde doğru olarak verilmiştir?

- A) Birleşik – isim – kurallı – olumsuz
- B) Sıralı – fiil – devrik – olumlu
- C) Basit – fiil – kurallı – olumlu
- D) Birleşik – fiil – devrik – olumlu

15. Çözülen bir demetten indiler birer birer, Bırak, yorgun başları bu taşlarda uyusun.

Tutuşmuş ruhlarına bir damla gözyaşı sun,
Bir sebile döküldü bembeyaz güvercinler

Bu dizelerde haber kipiyle çekimlenmiş kaç eylem vardır?

- A) 1 B) 2 C) 3 D) 4

16. Aşağıdakilerin hangisi sözde soru cümlesidir?

- A) Onun ne uyanık olduğunu bilmeyen var mı?
- B) Bu tabağı buraya kim koydu?
- C) Afyon'da tahminen kaç gün kalırız?
- D) TDK'nin ilk başkanı kimmiş?

17. Güvercinler taklalar atarak uçuyorlar.

Bu cümledeki anlatım bozukluğunun nedeni aşağıdakilerin hangisidir?

- A) Sözcüğün yanlış anlamda kullanılması
- B) Gereksiz sözcük kullanımı
- C) Özne-yüklem uyumsuzluğu
- D) Öge eksikliği

18. Aşağıdakilerden hangisi bir paragrafın giriş cümlesi olamaz?

- A) Asaf Halet, şiirlerinde Doğu ve Batı mistisizmini kaynaştırmıştır.
- B) Bu eserinde de aynı şekilde geleneklere başkaldırıcı işlediğini görüyoruz.
- C) İyi bir edebî eserden tek bir sözcüğün dahi çıkarılması mümkün değildir.
- D) Aşk, yüzyıllardır edebî eserlerde yer alan evrensel bir konudur.

19. Birkaç dakikalık hoş beşten sonra öğretmen, genzini temizledi. Salon sessizleşti, herkes gözlerini saygıyla ona dikti. Öğretmen kendinden emin, tok bir sesle konuşmaya başladı.

Bu paragrafın türü aşağıdakilerin hangisidir?

- A) Olay B) Açıklama
- C) Betimleme D) Fikir

20. Yaşam, bazen acı ve zorluklar, bazen sevinç ve mutluluklar ile ama her zaman sınanma ile geçer. Sınanmak insanın kaderidir çünkü. İnsanoğlu bazen korku, bazen açlık, bazen malla imtihan olur. Ama bu sıkı imtihanlara rağmen yaşamaktan hiçbir zaman vazgeçmez. İşte mutlu olmanın da sırrı buradadır.

Bu paragrafta asıl anlatılmak istenen aşağıdakilerin hangisidir?

- A) İnsanın en büyük arzusu mutlu olmaktır.
- B) Hayat sınavında başarılı olmak kolay değildir.
- C) Tüm zorluklara rağmen hayat yaşamaya değerdir.
- D) İnsanın isteyip de başaramayacağı hiçbir şey yoktur.

1. Gökyüzünün başka rengi de varmış! Geç fark ettim taşın sert olduğunu. Su insanı boğar, ateş yakarmış! Her doğan günün bir dert olduğunu, İnsan bu yaşa gelince anlamış.

Bu dizelerle ilgili aşağıdakilerden hangisi söylenemez?

- A) Sanatsal metne örnektir.
- B) Bilgi verme amacı vardır.
- C) Üslup kaygısıyla yazılmıştır.
- D) Dil, şiirsel işleviyle kullanılmıştır.

2. Ders vermek amacıyla hayvanlar ya da cansız varlıklar arasında geçen bir olayı genellikle manzum olarak anlatan yazılara - - - - denir.

Bu cümlede boş bırakılan yere aşağıdakilerden hangisi getirilmelidir?

- A) fabl B) masal
- C) hikâye D) roman

3. Bir varmış, bir yokmuş. Evvel zamanların birinde bir padişahın ülkesinde fukara bir balıkçı varmış. Gün gelmiş balıkçı ölmüş, bir oğlu kalmış arkada. Babasının sanatını eline alarak o da balıkçılığa başlamış.

Bu parça aşağıdaki türlerin hangisinden alınmıştır?

- A) Romandan
- B) Mesneviden
- C) Manzum hikâyeden
- D) Masaldan

4. Aşağıdakilerden hangisi ilahi başkış açısıyla kaleme alınmıştır?

- A) Çaresizlik içindeyim. Ötede, ülkemde bir evim var. Oraya dönemiyorum. Artık dönemeyeceğim de. Hasretlik çok zor geliyor.
- B) Sabah. Saat daha yedi olmadığı hâlde Makar Kuzmuş Bliostkov'un berber dükkânı açık. Şık giyimli ama üstü başı kir içinde, yirmi yaşlarındaki dükkân sahibi Makar, sabah temizliği yapmakta.
- C) O eski şevki kayboluverdi. Ruhuna koyu bir karanlık doldu. Kalbine acı bir ağırlık çöktü. Artık Deli Mehmet'in yeşil nurdan mezarı içinde sürdürdüğü zevki göremez oldu.
- D) Buradan ayrıldıktan sonra ne yapacağım? Sıhhatim yavaş yavaş düzeliyor. Fakat nafi öyle hissediyorum ki içimde müebbeden kırılmış bir şey var.

1. OTURUM

5. 16. yüzyıldan itibaren destanların yerini tutmaya başlayan ve günümüzde de özellikle Doğu Anadolu'da yaşamaya devam eden halk hikâyeleri aşağıdaki anlatıcıların hangisi tarafından günümüze kadar getirilmiştir?

- A) Hükümdar ve devlet başkanları
B) Din adamları
C) Âşıklar
D) Edebiyat tarihçileri

6. I. Bu tarz hikâyelerde gerçekler abartılarak verilir.
II. Merak ögesi ikinci plandadır.
III. Kahramanlar karşılıklı konuşma içinde bulunur.
IV. Serim, düğüm, çözüm planına uyulur.

Numaralanmış özelliklerden hangileri durum hikâyesi için söylenemez?

- A) I ve II. B) I ve IV.
C) II ve III. D) III ve IV.

7. Romanda çatışmaların ve engellerin ortadan kalktığı, olayların sona erdiği bölüm aşağıdakilerin hangisidir?

- A) Çözüm B) Giriş
C) Düşeme D) Gelişme

8. • Dış âlemdeki olaylardan çok, kahramanların iç dünyası ve ruh hâlleri anlatılır.
• Kişilerin toplumla ilişkileri üzerinde durulur.
• Bu türün edebiyatımızdaki ilk başarılı örneği Eylül romanıdır.

Bu özellikler aşağıdaki roman türlerinden hangisine aittir?

- A) Macera B) Tarihî
C) Psikolojik D) Otobiyografik

9. • Edebiyatımızda ilk yerli roman Namık Kemal'in "İntibah" adlı romanıdır.
• Roman türünün ilk örneği Victor Hugo'nun "Sefiller"idir.
• Edebiyatımızdaki ilk çeviri roman "Telemak" adlı eserdir.

Romanla ilgili verilen bu cümleler doğru-yanlış bakımından değerlendirilecek olursa sıralama aşağıdakilerin hangisi olur?

- A) D – D – Y B) Y – Y – D
C) D – Y – Y D) Y – D – Y

10. Aşağıdakilerden hangisi komedyanın özelliklerinden değildir?

- A) Konular toplumdan veya günlük yaşamdan alınır.
B) Yüksek ve soylu bir üslup kaygısı güdülmez.
C) Acı veren olaylar seyircinin önünde canlandırılabilir.
D) Üç birlik kuralına uyulmaz.

11. Bu tiyatronun göze çarpan yönü kalıplaşmış gerçeklere karşı çıkmak, tabiatın ve mantıktan uzaklaşmak, insanları düşündürmektir. Az olay ve sözle önemli şeyler anlatmak düşüncesi ön plana çıkar. Sahne, perde düzeni, giriş-çıkışlar, serim, düğüm, çözüm bölümleri önemli değildir.

Bu parçada kısaca tanıtılan tiyatro türü aşağıdakilerin hangisidir?

- A) Epik tiyatro B) Tragedya
C) Dram D) Absürt tiyatro

12. Aşağıdakilerden hangisi Karagöz oyunundaki tiplerden biri değildir?

- A) Tuzsuz Deli Bekir
B) Çelebi
C) Pişekâr
D) Zenne

13. Manzume ile şiir karşılaştırmasına dair aşağıda verilenlerin hangisi yanlıştır?

- A) Şiirde olay örgüsü vardır, manzumede yoktur.
B) Manzumelerde anlatılanlar düzyazıyla ifade edilebilir, şiirde bu çok güçtür.
C) Şiirde duygu ve çağrışım ön plandadır, manzumede yaşanabilecek şeyler işlenir.
D) Şiirde çok anlamlılık ve imge ağır basar, manzumede kelimeler genelde gerçek anlamlarıyla kullanılır.

14. Kara gökler kül rengi bulutlarla kapanık;
Evlerin bacasını kolluyor yıldırımlar.
İn cin uykuda, yalnız iki yoldaş uyanık;
Biri benim, biri de serseri kaldırımlar.

Bu dördlüğe hâkim olan tema aşağıdakilerin hangisidir?

- A) Yalnızlık B) Ölüm
C) Özlem D) Şaşkınlık

15. Aşağıdaki nazım şekillerinden hangisi Batı edebiyatından alınarak edebiyatımızda kullanılan türlerden biridir?

- A) Müstezat B) Sone
C) Semai D) Mânî

16. Aşağıdaki açıklamalardan hangisi yay araç içinde verilen tiyatro terimine uygun değildir?

- A) Tiyatro eserinde olay örgüsüne verilen addır. (dramatik örgü)
B) Dekora yardımcı küçük eşyalardır. (figüran)
C) Rol gereği yapılan yüz ifadeleridir. (mimik)
D) Konunun ana bölümlerinden her birine verilen addır. (perde)

17. Romanda anlatılan konunun süresini günlere hatta saatlere indirme şeklinde görülen çağdaş roman tekniğine - - - - denir.

Bu cümlede boş bırakılan yere aşağıdakilerden hangisi getirilmelidir?

- A) bilinç akımı
B) montaj
C) leitmotiv
D) görece zaman anlayışı

18. I. Teşhis ve intak sanatları üzerine kurulmuştur.
II. Sadece nesir biçiminde yazılır.
III. Sonunda her zaman bir ahlak dersi vardır.
IV. Kahramanları genellikle insanlardır.

Numaralanmış özelliklerden hangileri "fabl" için söylenemez?

- A) I ve II. B) I ve III.
C) II ve IV. D) III ve IV.

19. Aşağıdakilerden hangisi masallar üzerinde çalışmış önemli derlemecilerimizden biridir?

- A) Turgut Uyar
B) Sezai Karakoç
C) Eflatun Cem Güney
D) Nurullah Ataç

20. Aşağıdakilerden hangisi olay öykücülüğünün edebiyatımızdaki önemli temsilcilerinden biri değildir?

- A) Ömer Seyfettin
B) Memduh Şevket Esendal
C) Reşat Nuri Güntekin
D) Refik Halit Karay

1. OTURUM

(408) DİL VE ANLATIM – 8

1. Ünlü edebiyat profesörünün konuşmacı olduğu "Yunus Emre'nin Gönül Dünyası" konulu - - - - tüm öğrencilerimiz davetlidir.
Bu cümlede boş bırakılan yere aşağıdakilerden hangisi getirilmelidir?
- A) münazaraya B) sempozyuma
C) konferansa D) açık oturuma
2. Aşağıdakilerden hangisi bilimsel bir yazıdan alınmıştır?
- A) Dönülmez akşamın ufkundayız, vakit çok geç
Bu son fasıldır ey ömrüm, nasıl geçersen geç
- B) Dilde, özellikle hukuk dilinde "amme menfaati" terimi vardı. Bunun sözlüklerde "kamu menfaati" biçiminde karşılığı yoktur. Bu kavram, "kamu yararı" biçiminde adlandırıldı ve sözlüklere girdi.
- C) Fakültenin karanlık koridorlarından geçerken geri dönüp usulca bakıyor. Göz göze gelince bakışları anlam değiştiriyor birden.
- D) O gece rüzgâr kesildi. Gök bulutlandı. Yağmur bardaktan boşanırcasına yağmaya başladı. Toprak; serin ve bol suyu, askerden dönen oğullarını kucaklayan analar gibi içi titreyerek bağrına bastı.
3. - - - - bildirisi konferans gibi, bir dinleyici topluluğu önünde okunur.
Bu cümlede boş bırakılan yere aşağıdakilerden hangisi getirilmelidir?
- A) Sempozyum B) Münazara
C) Açık oturum D) Panel
4. Aşağıdakilerden hangisi münazara da tartışmaya elverişli bir konudur?
- A) Lale Devri, savaşların olmadığı ve kültürel gelişmelerin görüldüğü bir dönemdir.
- B) Servetifünun romanı teknik açıdan Tanzimat romanının epey ilerisindedir.
- C) İlkokullarda yabancı dil eğitiminin verilmesi doğru bir uygulamadır.
- D) Kara yollarında kurallara uyulması kaza oranlarını düşürmektedir.
5. Televizyonlarda yayımlanan tartışma programlarının türü aşağıdakilerden hangisidir?
- A) Sempozyum B) Münazara
C) Konferans D) Açık oturum

6. Aşağıdakilerden hangisi açık oturumda yer alan konuşmacıların özelliklerinden biri olamaz?
- A) Sabırlı B) Uyumlu
C) Baskıcı D) Hoşgörülü
7. Konferansta dil ağırlıklı olarak hangi işlevde kullanılır?
- A) Dil ötesi
B) Göndergesel
C) Sanatsal
D) Alıcıyı harekete geçirme
8. Bir kitabın veya derginin kişi, konu, yer adı vb. bakımdan içindekileri yer numarasıyla belirten ve eserin arkasında yer alan alfabetik liste, indeks, fihrist.
Bu cümlede bilimsel yazılarla ilgili aşağıdaki terimlerden hangisinin tanımı yapılmıştır?
- A) Dizin B) Kaynakça
C) Dipnot D) Bibliyografya
9. I. Başkan tartışma konusu dışına çıkarak konunun havasını dağıtmalıdır.
II. Süslü ve sanatlı söyleişlere fikirlerden daha çok önem verilmelidir.
III. Münazara kişisel üstünlük sorunu olarak görülmemelidir.
IV. Aynı konuda üst üste söz almaya çalışılmamalıdır.
"Münazara" ile ilgili yukarıda verilen özelliklerden hangileri yanlıştır?
- A) I ve II. B) I ve III.
C) II ve IV. D) III ve IV.
10. - - - -, bir gün sürebileceği gibi birkaç gün de sürebilir.
Bu cümlede boş bırakılan yere aşağıdakilerden hangisi getirilmelidir?
- A) Konferans B) Açık oturum
C) Sempozyum D) Panel
11. • Açık oturumda bir yarışma havası vardır.
• Konferansta en az iki kişinin konuşmasına yer verilir.
• Açık oturumda konuşmacı sayısının altıyı geçmemesi tercih edilir.
Bu cümleler doğru-yanlış olarak değerlendirildiğinde sıralama aşağıdakilerden hangisi olur?
- A) D – D – Y B) Y – Y – D
C) D – Y – Y D) Y – D – D

12. 12. Sınıf öğrencisi Aylin, gittiği bir tartışma ile ilgili şu gözlemleri yapmıştır:
• Her bir konuşmacı ayrı ayrı konuşma yapmıştır.
• Toplantı iki gün sürmüştür.
• Toplantı sonunda bir bildiri hazırlanmıştır.
Bu bilgilere göre Aylin, aşağıdaki tartışma türlerinden hangisine katılmıştır?
- A) Konferansa B) Açık oturuma
C) Münazaraya D) Sempozyuma
13. Bir başkanın yönetiminde, toplumu ilgilendiren bir konuda, farklı gruplardan oluşan dinleyicilerin söz sırası olarak konuşma kuralları içinde yaptıkları tartışmalardır.
Bu cümlede tanımı yapılan tartışma türü aşağıdakilerden hangisidir?
- A) Sempozyum B) Panel
C) Forum D) Konferans
14. Aşağıdakilerin hangisi bilimsel yazıların bölümlerinden biri değildir?
- A) Başlık B) Sunuş
C) Özet D) Asıl metin
15. I. İleri sürülen düşüncenin ispatlanmasına gerek yoktur.
II. Bilimsel bir anlatım ağır basar.
III. Teknik deyimlere ve terimlere yer verilebilir.
IV. Betimleyici ve öyküleyici anlatıma ağırlık verilir.
"Makale" ile ilgili numaralanmış özelliklerden hangileri yanlıştır?
- A) I ve II. B) I ve IV.
C) II ve III. D) III ve IV.
16. Aşağıdaki dipnot yazımlarından hangisi doğrudur?
- A) Ankara 2012, s. 100, Yazım Kılavuzu, TDK Yayınları, 27. Baskı.
B) TDK Yayınları, Ankara 2012, Yazım Kılavuzu, 27. Baskı, s.100.
C) Yazım Kılavuzu, s. 100, 27. Baskı, Ankara 2012, TDK Yayınları.
D) Yazım Kılavuzu, TDK Yayınları, 27. Baskı, Ankara 2012, s.100.

1. OTURUM

17. Aşağıdakilerden hangisi münazaranın amaçlarından biri olamaz?

- A) Fikrini zorla karşı tarafa kabul ettirme alışkanlığı kazandırma
- B) Öğrencilerin konuşma yeteneğinin gelişmesini sağlama
- C) Doğru düşünme alışkanlıkları kazandırma
- D) Düşüncelerin ve kabullerin karşılaştırılmasına olanak sağlama

18. ---, panel türünün özelliklerini bünyesinde barındırır; panelden farkı tartışmanın sonunda dinleyicilerin tartışmaya katılıp fikirlerini açıklamasıdır.

Bu cümlede boş bırakılan yere aşağıdakilerden hangisi getirilmelidir?

- A) Konferans
- B) Açık oturum
- C) Forum
- D) Münazara

19. Aşağıdakilerden hangisi sempozyum bildirisinin bölümlerinden değildir?

- A) Giriş
- B) Oluşturma
- C) Deney
- D) Bulgular

20. Konferansın amacını en iyi ifade eden kavram aşağıdakilerden hangisidir?

- A) Coşkulandırmak
- B) Heyecanlandırmak
- C) Duygulandırmak
- D) Bilgilendirmek

(414) TÜRK EDEBİYATI – 4

1. Türk tasavvuf edebiyatının kurucusu aşağıdakilerden hangisidir?

- A) Hoca Ahmet Yesevi
- B) Hoca Dehhanî
- C) Yunus Emre
- D) Hacı Bektaşî Veli

2. Karahanlılar Dönemi'nde bilim dili olarak ---, edebiyat dili olarak --- kullanılmaya başlanmıştır.

Bu cümlede boş bırakılan yerlere sırasıyla aşağıdakilerden hangisi getirilmelidir?

- A) Türkçe – Arapça
- B) Arapça – Farsça
- C) Farsça – Arapça
- D) Arapça – Türkçe

3. Kutadgu Bilig ile ilgili aşağıdakilerden hangisi söylenemez?

- A) Edebiyatımızdaki ilk mesnevidir.
- B) Edebiyatımızda aruzla yazılan ilk eserdir.
- C) Edebiyatımızdaki ilk siyasetnamedir.
- D) İlk Türkçe sözlüktür.

4. Türkçenin ilk dil bilgisi kitabıdır. İçinde yazıldığı döneme ait çok sayıda Türkçe sözcük ile Türk halk edebiyatından alınmış çok sayıda şiir örnekleri bulunmaktadır.

Bu parçada tanıtılan eser aşağıdakilerden hangisidir?

- A) Divan-ı Hikmet
- B) Kutadgu Bilig
- C) Divanü Lûgati't Türk
- D) Atabetü'l Hakayık

5. Aşağıdaki eser - sanatçı eşleştirmelerinden hangisi yanlıştır?

- A) Divan-ı Hikmet – Yunus Emre
- B) Kutadgu Bilig – Yusuf Has Hacip
- C) Divanü Lûgati't Türk – Kaşgarlı Mahmut
- D) Atabetü'l Hakayık – Edip Ahmet Yükneki

6. Karamanoğlu Mehmet Bey'in 1277 yılında "Bugünden sonra divanda, dergâhta, bargâhta, mecliste, meydanda Türkçeden başka dil kullanılmayacaktır." şeklinde bir ferman çıkartmasının amacı aşağıdakilerden hangisidir?

- A) Türkçeyi diğer dillerin etkisinden kurtarmak
- B) Türkçenin zengin bir dil olduğunu ortaya koymak
- C) Türk dili ile ilgili çalışmalara önem vermek
- D) Düzyazının gelişimine katkı sağlamak

7. Aşağıdakilerden hangisi 14. yüzyıl şairlerinden olan Ahmedî için söylenemez?

- A) Gazel, kaside, mesnevi türünde eserler vermiştir.
- B) Tasavvuf konularını ele almıştır.
- C) Ağır ve süslü bir dil kullanmıştır.
- D) Divan edebiyatındaki mazmunların yerleşmesinde etkili olmuştur.

8. İstanbul kuşatmasına katılan Emevi komutan Abdullah bin Amr'ın tarihsel gerçeklerden uzaklaşmış ve halkın hayal gücüyle zenginleştirilmiş kahramanlıklarını anlatan 7000 beyitlik bir destandır. Eser Türklerin Anadolu'daki yiğitliklerini, İslamiyet uğruna Bizanslılarla yaptıkları savaşları anlatır.

Bu parçada sözü edilen eser aşağıdakilerden hangisidir?

- A) Battal Gazi
- B) Dede Korkut Hikâyeleri
- C) İskendername
- D) Ferhat ile Şirin

9. Aşağıdaki eserlerden hangisi halk edebiyatı geleneğine bağlı kalınarak oluşturulmamıştır?

- A) Tahir ile Zühre
- B) Ferhat ile Şirin
- C) Arzu ile Kamber
- D) Leyla ve Mecnun

10. I. Eserdeki metinler hikâye-destan özellikleri gösterir.
II. Ağır ve sanatlı bir dil kullanılmıştır.
III. Aruz ölçüsüyle yazılmış uzun, manzum bir eserdir.
IV. Müslüman Oğuzların iç ve dış mücadeleleri anlatılmıştır.

Numaralanmış özelliklerden hangileri Dede Korkut Hikâyeleri için söylenebilir?

- A) I ve II.
- B) I ve IV.
- C) II ve III.
- D) III ve IV.

11. Aşağıdakilerden hangisi Danişmentname ile ilgili yanlış bir bilgidir?

- A) Aruz ölçüsü ile oluşturulmuştur.
- B) Sade, anlaşılır bir dil kullanılmıştır.
- C) 19. yüzyılda yazıya geçirilmiştir.
- D) Melik Gazi Ahmet'in kahramanlıkları anlatılmıştır.

12. Aşağıdaki eser – sanatçı eşleştirmelerinden hangisi yanlıştır?

- A) Risaletü'n Nushiyye – Yunus Emre
- B) Hayrabat – Nabi
- C) Hüsn ü Aşk – Fuzuli
- D) Edirne Şehrengizi – Keçecizade İzzet Molla

1. OTURUM

13. Birçok dile çevrilen "Mesnevi" adlı eserinde ayetler, hadisler, şiirler, kısa öyküler ile Allah'a ulaşmanın yollarını anlatır. Ona göre insan, Allah'a kendini derin bir aşka bırakarak ulaşabilir. Bütün insanlığı kucaklayan mutasavvıf, birliği, iyiliği ve hoşgörüyü öğütler.

Bu parçada sözü edilen mutasavvıf aşağıdakilerden hangisidir?

- A) Mevlâna
- B) Şeyh Galip
- C) Hacı Bayram
- D) Süleyman Çelebi

14. Aşağıdakilerin hangisinde bilgi yanlış vardır?

- A) 17. yüzyılda Nef'i yazdığı kasideleriyle öne çıkmıştır.
- B) Şeyhülislam Yahya yalın bir dilin egemen olduğu gazeller yazmıştır.
- C) Nedim, şiirlerinde dönemin yaşantısını büyük bir başarıyla yansıtmıştır.
- D) Şeyh Galip, sade bir dille din dışı konuları ele almıştır.

15. Aşağıdakilerden hangisi kaside türünün özellikleri arasında sayılamaz?

- A) Beyit sayısı 33-99 arasında değişir.
- B) aa, ba, ca... şeklinde kafiyelenir.
- C) Övgü ve yergi konuları da ele alınır.
- D) Didaktik yönleri ağır basan şiirlerdir.

16. Baki, Kanuni Sultan Süleyman'ın ölümünden duyduğu üzüntüyü bir kasideyle dile getirmiştir.

Bu kasidenin konusuna göre türü aşağıdakilerden hangisidir?

- A) Methiye
- B) Münacaat
- C) Mersiye
- D) Hicviye

17. Aşağıdakilerden hangisi anonim halk edebiyatının özellikleri arasında sayılamaz?

- A) Uzun süre sözlü olarak yaşayan bir edebiyattır.
- B) Nazım birimi olarak dörtlük kullanılır.
- C) Eserler ağır ve süslü bir dille söylenmiştir.
- D) Manzum eserler hece ölçüsü ile oluşturulmuştur.

18. Aşağıdakilerden hangisi cinaslı mâniye örnektir?

- A) Dağlar dağladı beni
Gören ağladı beni
Bana zencir kâr etmez
Zülfün bağladı beni
- B) Yaradan,
Tabip bilir yaradan
Derdimi kimse bilmez
Ancak bilir Yaradan
- C) Atım vardır rahтім yok
Sana göre tahtım yok
Gerdana sinek konmuş
Sinek kadar bahtım yok
- D) Bu bağlar ulu dağlar
Eteği sulu dağlar
Herkes yâr ile gezer
Yüreğim kara bağlar

19. Tarih, coğrafya, biyografi, tıp, sosyoloji gibi alanlarda eserlerinin bir kısmını Arapça bir kısmını Türkçe yazmıştır. Fransızca, Latince ve İtalyanca bilen yazar, bilim dünyasına ışık tutan birçok eser yazmıştır. Cihânnüma, Fezleke, Keşfu'z-Zünun bunlardan bazılarıdır.

Bu parçada sözü edilen yazar aşağıdakilerden hangisidir?

- A) Kâtip Çelebi
- B) Süleyman Çelebi
- C) Evliya Çelebi
- D) Ali Şir Nevai

20. Aşağıdakilerden hangisi geleneksel Türk tiyatrosu çeşitlerinden değildir?

- A) Karagöz
- B) Meddah
- C) Komedi
- D) Orta Oyunu

(417) TÜRK EDEBİYATI – 7

1. Edebiyatımızda anı türündeki ilk eser aşağıdakilerden hangisidir?

- A) Seyahatname
- B) Paris Sefaretnamesi
- C) Şikâyetname
- D) Babürname

2. Aşağıdakilerin hangisinde gezi yazılarıyla ilgili bir bilgi yanlış vardır?

- A) Gezi yazılarında anlatılanlar hayal ürünü de olabilir.
- B) Anlatımda hikâye planına uygunluk gözetilir.
- C) Gezilen yerler yüzeysel değil, özüne inilerek yazılmalıdır.
- D) Yalın bir dil, renkli ve sürükleyici bir anlatım kullanılmalıdır.

3. Aşağıdakilerden hangisi Cumhuriyet Dönemi'nde yazdığı fıkralarla dikkati çeken yazarlardan biridir?

- A) Eflatun Cem Güney
- B) Orhan Veli Kanık
- C) Burhan Felek
- D) Cenap Şahabettin

4. Aşağıdakilerden hangisi Haldun Taner'in tiyatrolarından biri değildir?

- A) Keşanlı Ali Destanı
- B) Fazilet Eczanesi
- C) Paydos
- D) Ay Işığında Şamata

5. Çalığışu romanı ile ünlenen - - - - eserlerinde Anadolu kasaba ve şehirlerini fon olarak almış, insanları sorunlarıyla işlemiştir.

Bu cümlede boş bırakılan yere aşağıdakilerden hangisi getirilmelidir?

- A) Yakup Kadri Karaosmanoğlu
- B) Reşat Nuri Güntekin
- C) Halide Edip Adıvar
- D) Refik Halit Karay

6. I. Kesin sonuçlara ulaşma amacı vardır.
II. Konu sınırlaması yoktur.
III. İçten bir anlatıma sahiptir.
IV. Belirli bir plana göre oluşur.

Numaralanmış özelliklerden hangileri denemeye ait değildir?

- A) I ve III.
- B) I ve IV.
- C) II ve III.
- D) II ve IV.

7. • Sait Faik Abasıyanık, "Halikarnas Balıkcısı" takma adıyla hikâye ve romanlar yazmıştır.

- Tarık Buğra eserlerinde insanı kendi bireyselliği içinde ele alır.
- Haldun Taner'in hikâye ve oyunlarında ironi ve sanat endişesi göze çarpar.

Bu cümlelerde verilen bilgiler doğru - yanlış bakımından değerlendirildiğinde sıralama aşağıdakilerden hangisi olur?

- A) D – Y – D
- B) D – D – Y
- C) D – Y – Y
- D) Y – D – D

8. Aşağıdaki sanatçılardan hangisi Yedi Meşaleciler topluluğunun en önemli şairidir?

- A) Ziya Osman Saba
- B) Ahmet Hamdi Tanpınar
- C) Vasfi Mahir Kocatürk
- D) Necip Fazıl Kısakürek

1. OTURUM

9. Dil ve şekil özellikleri bakımından incelendiğinde aşağıdaki dizelerin hangisinin Cumhuriyet Dönemi'nde yazıldığı söylenir?

- A) Ne dem ki bezmede ol şuh-ı işveger bulunur
Hayalhane-i uşşakta neler bulunur
B) Beni bende demen, ben bende değilem
Bir ben var bende benden içerü
C) Saba eyler kudüm-i nev-bahrı kuhtan tebşir
Eder tıfl-ı muhabbet asiyab-ı alemler tedvir
D) İnsan dallarla, bulutlarla bir,
Aynı maviikten geçmiştir
İnsan nasıl ölebilir
Yaşamak bu kadar güzelken

10. Aşağıdakilerden hangisi Beş Hececiler'den biri değildir?

- A) Enis Behiç Koryürek
B) Orhan Veli Kanık
C) Halit Fahri Ozansoy
D) Faruk Nafiz Çamlıbel

11. Aşağıdaki eserlerin hangisinin türü farklıdır?

- A) Kahvede Şenlik Var
B) Atçalı Kel Mehmet
C) Sokrates'in Savunması
D) Abdullah Efendi'nin Rüyalari

12. Bilim, sanat, kültür ve başka konularda bilgi vermek, bir düşünceyi ortaya koymak ya da savunmak amacıyla yazılan, yazarın kişisel görüşlerini de yansıttığı gazete ve dergi yazılarına - - - - denir.

Bu cümlede boş bırakılan yere aşağıdakilerden hangisi getirilmelidir?

- A) fıkra B) deneme
C) makale D) sohbet

13. Aşağıdaki eserlerden hangisinin türü gezi yazısı değildir?

- A) Deniz Aşırı
B) Tiryaki Sözleri
C) Anadolu Notları
D) Akdeniz'de Bir Yaz Gezintisi

14. İbrahim Şinasi ve Ağâh Efendi'nin 1860'ta çıkardıkları - - - - adlı gazetede ilk makale Şinasi tarafından yazılmıştır.

Bu cümlede boş bırakılan yere aşağıdakilerden hangisi getirilmelidir?

- A) Tercüman-ı Ahval
B) Takvim-i Vakayi
C) Tasvir-i Efkâr
D) Tercüman-ı Hakikat

15. Cumhuriyet'in ilk yıllarında tiyatro türünün en başarılı isimlerindedir. Eserlerinde yöneticilerin açgözlülüğünü eleştirmiştir. Eserleri: İstanbul Efendisi, Aynaroz Kadısı, Bir Kavuk Devrildi.

Bu parçada kısaca tanıtılan sanatçı aşağıdakilerden hangisidir?

- A) İbnürrfik Ahmet Nuri Sekizinci
B) Muhsin Ertuğrul
C) Müsahipzade Celal
D) Haldun Taner

16. • Türk şiirinde gerçek yeniliği başlatan isim oldu.
• Şiirden ölçü, uyak gibi bağları atarak şiire özgürlük kazandırdı.

Bu özellikler aşağıdaki sanatçılardan hangisine aittir?

- A) Necip Fazıl Kısakürek'e
B) Ahmet Muhip Dıranaş'a
C) Ahmet Hamdi Tanpınar'a
D) Nazım Hikmet'e

17. Aşağıdakilerden hangisi II. Yeni şairlerinden biridir?

- A) Fazıl Hüsnü Dağlarca
B) Ece Ayhan
C) Attila İlhan
D) Asaf Halet Çelebi

18. Aşağıdaki sanatçılardan hangisi eserlerinde mizah ögesini ön plana çıkarmıştır?

- A) Peyami Safa
B) Tarık Buğra
C) Aziz Nesin
D) Yaşar Kemal

19. Aşağıdaki sanatçılardan hangisi 2006 yılında Nobel Edebiyat Ödülü'nü kazanmıştır?

- A) Yaşar Kemal
B) Selim İleri
C) Murathan Mungan
D) Orhan Pamuk

20. Aşağıdaki eserlerden hangisinin türü anıdır?

- A) Ah Beyoğlu Vah Beyoğlu
B) Bizim Akdeniz
C) Balıkesir Muhasebecisi
D) Karalama Defteri

(418) TÜRK EDEBİYATI – 8

1. Şiirde - - - - , - - - - , - - - - gibi ahengi sağlayan öğeler vardır.

Bu cümlede boş bırakılan yerlere aşağıdakilerden hangisi getirilemez?

- A) ölçü B) uyak
C) tema D) aliterasyon

2. Gittim gidilmeyecek yerlere
Düştüm düşülmeyecek kuyulara
Söyledim söylenmeyecek sözleri

Bu dizelere hâkim olan duygu aşağıdakilerden hangisidir?

- A) Pişmanlık B) Yalnızlık
C) Korku D) Özlem

3. Yaşarken kitap çıkarmayan sanatçı, klasik şiirimizi Batı şiirindeki bütünlük anlayışı ile ele aldı. Genel olarak Osmanlı medeniyet ve kültürüne bağlı kaldı. Şiirlerinin birçoğunda İstanbul sevgisini dile getirdi. İç ahengi her şeyden üstün tuttu. Şiiri "musikiden başka türlü bir musiki" olarak kabul etti.

Bu parçada sözü edilen sanatçı aşağıdakilerden hangisidir?

- A) Yahya Kemal Beyatlı
B) Ercüment Behzat Lav
C) Ahmet Kutsi Tecer
D) Mehmet Emin Yurdakul

4. Allı, yeşilli işportam.
İşportamda oyuncaklarımın çeşitleri tam
Benim, irili ufaklı kaypakların çomarı Tomarı
Yüklü, türedi kukla oyuncaklarım

Bu dizeler aşağıdaki şiir anlayışlarının hangisiyle kaleme alınmıştır?

- A) Halk şiiri
B) Öz şiir anlayışını sürdüren şiir
C) Serbest nazım ve toplumcu şiir
D) Millî Edebiyat zevk ve anlayışını sürdüren şiir

5. Aşağıdaki sanatçılardan hangisi şiirlerinde hece ölçüsünü kullanmamıştır?

- A) Faruk Nafiz Çamlıbel
B) Ahmet Kutsi Tecer
C) Kemalettin Kamu
D) Ahmet Haşim

1. OTURUM

6. Gelenekçi şiir anlayışına karşı yazdıklarıyla yenilikçi şiirin egemenliğini ilan eden topluluk, Cumhuriyet Dönemi'nin ikinci edebî topluluğunu oluşturmuştur.

Aşağıdaki sanatçılardan hangisi bu cümlede sözü edilen topluluk üyeleri arasında yer almaz?

- A) Fazıl Hüsnu Dağlarca
B) Orhan Veli Kanık
C) Melih Cevdet Anday
D) Oktay Rifat Horozcu

7. I. Gülmecedan, şaşırtmacadan yararlanmak
II. Süslü bir dil yerine yalın bir dil kullanmak
III. Şiiri çeşitli kurallara bağlamak
IV. Günlük hayatın, küçük insanların sorunlarını dile getirmek
V. Çeçer dönük, maneviyatçı bir şiir oluşturmak

Numaralanmış amaçlardan hangileri Garipçilere ait olamaz?

- A) I ve IV. B) II ve IV.
C) III ve V. D) IV ve V.

8. 1940 sonrası Türk şiirinde halk şiirinden yola çıkarak yeni şiire ulaşan sanatçı gününün akımlarına bağlanmadan kendi şiirini geliştirmiştir. Bir Karacaoğlan rahatlığı ve temiz bir dil ile âdeta kendi türküsünü söylemiştir şiirlerinde. Onun şiir dünyası Anadolu coğrafyasındaki Türk insanının geçit resmi gibidir.

Bu parçada sözü edilen sanatçı aşağıdakilerden hangisidir?

- A) Cahit Külebi
B) Edip Cansever
C) Atol Behramoğlu
D) Süreyya Berfe

9. **Aşağıdakilerden hangisi II. Yeni şiiri için söylenemez?**

- A) Bireyci bir şiir anlayışı vardır.
B) Mecaz ve imgeler bolca kullanılır.
C) Nükte ve şaşırtmalara yer verilir.
D) Dadaizm ve sürrealizmin etkileri görülür.

10. **Aşağıdaki sanatçılardan hangisi II. Yeni şairlerindedir?**

- A) Necip Fazıl Kısakürek
B) Sezai Karakoç
C) Kemalettin Kamu
D) Fazıl Hüsnu Dağlarca

11. 1970-1980 yılları arasında şiirde - - - - öne çıkmıştır.

Bu cümlede boş bırakılan yere aşağıdakilerden hangisi getirilmelidir?

- A) aşk B) slogan
C) köy gerçekleri D) yalnızlık

12. On altıya karar verdim yaşıyı
Yenice sevdaya salmış başını
El yanında yıkar gider kaşını
Tenhalarda gülüşünü sevdiğim

Bu dizelerle ilgili aşağıdakilerden hangisi söylenemez?

- A) 11'li hece ölçüsü ile söylenmiştir.
B) Halk şiiri geleneğiyle oluşturulmuştur.
C) Yarım uyak kullanılmıştır.
D) Nazım birimi dördüktür.

13. Yiğit kendini öğende
Oklar menzili döğende
Şeş-per kalkana değende
Kalkan gümbür gümbürlerin

Bu dizelerin konusuna göre türü aşağıdakilerden hangisidir?

- A) Taşlama B) Koçaklama
C) Güzelleme D) Ağıt

14. **Aşağıdakilerden hangisi Cumhuriyet Dönemi halk şairlerinden değildir?**

- A) Murat Çobanoğlu
B) Şeref Taşlıova
C) Yaşar Reyhanî
D) Cahit Zarifoğlu

15. **Aşağıdakilerden hangisi köyü ve köylüyü ele alan eserlere örnek gösterilemez?**

- A) Karabibik
B) Küçük Paşa
C) Memleket Hikâyeleri
D) Kara Kitap

16. Türk hikâye ve romanında toplumcu gerçekçiliğin öncülerinden olan - - - -, gözleme dayalı konularını yaşamından alır. Sanatın tek amacının insanları daha iyiye, daha doğruya, daha güzele yükseltmek olduğunu belirtir.

Bu parçada boş bırakılan yere aşağıdakilerden hangisi getirilmelidir?

- A) Sabahattin Ali
B) Sait Faik Abasıyanık
C) Mehmet Rauf
D) Bilge Karasu

17. **Aşağıdaki sanatçılardan hangisi Cumhuriyet Dönemi öykücülerinden değildir?**

- A) Sait Faik Abasıyanık
B) Necati Cumalı
C) Ömer Seyfettin
D) Fakir Baykurt

18. • Anayurt Otel
• Tutunamayanlar
• Dokuzuncu Hariciye Koğuşu

Yukarıda eseri verilmeyen sanatçı aşağıdakilerden hangisidir?

- A) Peyami Safa
B) Yusuf Atılgan
C) Oğuz Atay
D) Orhan Pamuk

19. **Aşağıdaki sanatçılardan hangisi Yedi Meşaleciler grubunda yer almaz?**

- A) Ziya Osman Saba
B) Fazıl Hüsnu Dağlarca
C) Yaşar Nabi Nayır
D) Vasfi Mahir Kocatürk

20. **Aşağıdakilerden hangisi deneme ve eleştiri türlerindeki eserleriyle tanınan sanatçılardan değildir?**

- A) Tark Buğra
B) Nurullah Ataç
C) Suut Kemal
D) Cemil Meriç

(421) FİZİK – 1

1. Bazı teknolojik ürünler aşağıda verilmiştir.

- I. Buzdolabı
II. Cep telefonu
III. Televizyon

Bu ürünlerden hangileri fizik bilimi ile geliştirilmiş ürünlerdir?

- A) Yalnız I B) I ve II.
C) II ve III. D) I, II ve III.

2. **Fizik biliminin tarihsel gelişimi sürecinde;**

- I. Arşimet
II. Aristo
III. Newton

Bilim insanlarından hangileri yer almıştır?

- A) Yalnız I B) I ve II.
C) II ve III. D) I, II ve III.

1. OTURUM

3. Radyo ve mikrodalga gibi cihazlar Fizik biliminin hangi konusunda yapılan çalışmalar sonucu geliştirilmiştir?

- A) Dalgalar B) Nükleer
C) Fotosentez D) Biyoloji

4. Temel büyüklüklerden biri olan kütle için ölçme aracı aşağıdakilerden hangisidir?

- A) Barometre
B) Eşit kollu terazi
C) Termometre
D) Voltmetre

5. Aşağıdaki ifadelerden hangisi vektörel büyüklüğü temsil eder?

- A) Arkadaşımın kütlesi 45 kg'dır.
B) Suyun özkütlesi 1 g/cm³'dür.
C) Cisme +x yönünde 20 N'luk kuvvet uyguladık.
D) Uçak yolculuğu 2 saat sürdü.

6. Ders kitabının boyutlarını ölçmek için aşağıda verilen ölçüm araçlarından hangisi kullanılamaz?

- A) Kumpas
B) Cetvel
C) Şerit metre
D) Eşit kollu terazi

7. 5 ton kömür ile ilgili;

- I. 5.10⁶ grama eşittir.
II. 5.10³ kilograma eşittir.
III. 5.10⁸ miligrama eşittir.

Yargılarından hangileri doğrudur?

- A) Yalnız I B) I ve II
C) II ve III. D) I, II ve III.

8. Kütle 15,6 g hacmi 2 cm³ olan metalin özkütlesi (d) kaç g/cm³ tür?

- A) d_{demir} = 7,8 B) d_{gümüş} = 10,49
C) d_{civa} = 13,6 D) d_{altın} = 19,3

9. Yarıçapı 1 cm yüksekliği 10 cm olan silindirik şeklindeki geometrik cismin boyutlarını 3 katına çıkarırsak dayanıklılık oranı ($\frac{\text{Kesit alanı}}{\text{Hacim}}$) aşağıdakilerden hangisine eşit olur? ($\pi = 3$ alınacak)

- A) $\frac{1}{10}$ B) $\frac{1}{20}$
C) $\frac{1}{30}$ D) $\frac{1}{60}$

10. Bir cismin dayanıklılığı;

- I. Cinsine
II. Kalınlığına
III. Sıcaklığına
niceliklerinden hangilerine bağlıdır?

- A) Yalnız I B) I ve II.
C) II ve III. D) I, II ve III.

11. Belirli basınç ve sıcaklıkta bulunan katılar ile ilgili aşağıdakilerden hangisi doğrudur?

- A) Sabit bir hacimi ve belirli şekilleri vardır.
B) Kolaylıkla sıkıştırılabilir.
C) Atom ya da molekülleri öteleme hareketli yaparlar.
D) Buldukları kabın şeklini alırlar.

12. Maddenin plazma hali ile ilgili;

- I. Gazın iyonlaşmış halidir.
II. Plazmalar elektrik ve manyetik alanlardan etkilenir.
III. Güneş ve diğer yıldızlar plazma halinde bulunur.

yargılarından hangileri doğrudur?

- A) Yalnız I B) I ve II.
C) II ve III. D) I, II ve III.

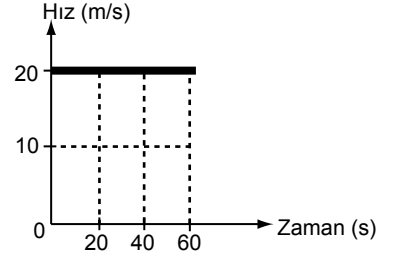
13. Aşağıdaki tabloda çevremizdeki hareket biçimlerinden baskın olan hareket biçimleri belirtilmiştir.

I.	Ağaçtaki elmanın yere düşmesi	Öteleme hareketi
II.	Saz telinin hareketi	Titreşim hareketi
III.	Düz bir tren rayında sabit süratle giden trenin hareketi	Titreşim hareketi
IV.	Saatteki akrep ve yelkovanın hareketi	Dönme hareketi

Buna göre hangi hareket biçimi yanlış verilmiştir?

- A) I B) II C) III D) IV

14. Bir otomobile ait hız-zaman grafiği şekildeki gibidir.



Buna göre düzgün doğrusal hareket eden otomobilin 60 s sonundaki yer değiştirmesi kaç metredir?

- A) 800 B) 1200
C) 1600 D) 1800

15. Kuvvetler bir etkileşim sonucu oluşur. Bu etkileşim için cisimlerin bazen birbirleriyle temas etmesi gerekirken bazende gerekmez.

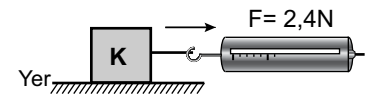
Buna göre;

- I. Rüzgarın uçurtmayı uçurması
II. Ağaçtaki portakalın yere düşmesi
III. Miknatisin iğneyi çekmesi

hangileri temas gerektirmeyen kuvvet etkisi ile gerçekleşir?

- A) Yalnız I B) Yalnız II
C) II ve III. D) I, II ve III.

16. K cisminin ağırlığı 20 N'dur. Cisim dinamometreyle yatay olarak çekiliyor ve dinamometre 2,4 N değerini gösterdiğinde harekete geçiyor.



Buna göre K cismi ile yüzey arasındaki sürtünme kat sayısı kaçtır? (Statik ve kinetik sürtünme katsayıları eşit)

- A) 0,12 B) 1,2
C) 12 D) 120

1. OTURUM

(425) FİZİK – 5

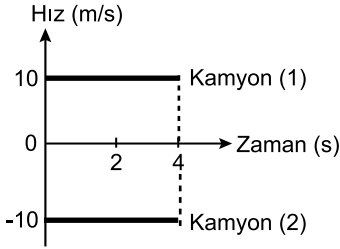
17. Sürtünme kuvvetinin ihmal edildiği bir yerde şekildeki cisme belirtilen yönlere $F_1=8\text{ N}$, $F_2=10\text{ N}$, $F_3=10\text{ N}$, $F_4=12\text{ N}$ 'luk kuvvetler etki etmektedir.



Buna göre cisme etki eden net kuvvet kaç Newton'dur?

- A) 2 B) 4 C) 8 D) 12

18. Düz bir yolda aynı noktadan hareket eden iki kamyonun hız-zaman grafiği şekildeki gibidir.



Buna göre;

- Kamyonlar aynı yönde hareket etmiştir.
- 4 s sonunda kamyonlar arası uzaklık 80 m'dir.
- Kamyonlar 4 s sonunda yan yanadır.

yargılarından hangileri doğrudur?

- A) Yalnız I B) Yalnız II
C) II ve III. D) I, II ve III.

19. Eylemsizlik ile ilgili olarak ;

- Maddelerin ortak bir özelliğidir.
- Kütlesi olan her cismin eylemsizliğinde vardır.
- Gazların ve sıvıların eylemsizliği yoktur.

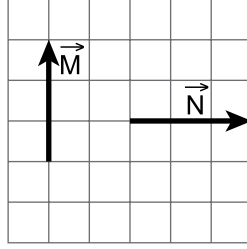
yargılarından hangileri doğrudur?

- A) I ve II. B) II ve III.
C) I ve III. D) I, II ve III.

20. Cisimlerin şeklinde ve hareketinde değişiklik oluşturan yada oluşturmaya çalışan etki aşağıdakilerden hangisidir?

- A) Özkütle B) Sürat
C) Hacim D) Kuvvet

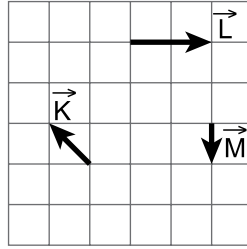
1.



Birim kareler üzerinde gösterilen \vec{M} ve \vec{N} vektörlerinin bileşkesi kaç birimdir?

- A) $3\sqrt{2}$ B) $\sqrt{3}$ C) $2\sqrt{5}$ D) $\sqrt{2}$

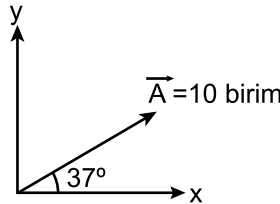
2. Şekildeki birim kareler üzerinde \vec{K} , \vec{L} ve \vec{M} vektörleri verilmiştir.



Buna göre, $\vec{K} + \vec{L} + \vec{M}$ vektörlerinin bileşkesi hangisidir?

- A) B) C) D)

3. A vektörü 10 birim olup yatayla 37° 'lik açı yapmaktadır.



Buna göre A vektörünün A_x ve A_y bileşenleri kaç birimdir?
($\cos 37^\circ = 0,8$ $\sin 37^\circ = 0,6$)

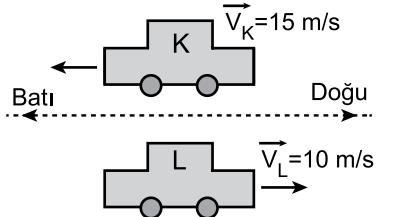
- | | A_x | A_y |
|----|-------|-------|
| A) | 6 | 8 |
| B) | 3 | 4 |
| C) | 8 | 6 |
| D) | 4 | 3 |

4. Otoyolda 70 km/h hızla doğuya doğru giden bir otobüsün yanından aynı yönde 100 km/h hızla bir araba geçmektedir.

Buna göre 70 km/h hızla giden otobüsün içindeki Ayşe arabanın hareket yönünü ve hızının büyüklüğünü nasıl görür?

- A) Batıya doğru 170 km/h
B) Doğuya doğru 170 km/h
C) Batıya doğru 30 km/h
D) Doğuya doğru 30 km/h

5. Şekilde K aracı batıya doğru 15 m/s hızla L aracıda doğuya doğru 10 m/s hızla gidiyor.



Buna göre L aracındaki gözlemci K aracını hangi hızla hangi yöne doğru gidiyor görür?

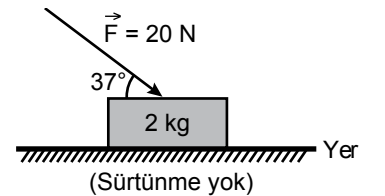
- A) Doğü yönünde 5 m/s
B) Batı yönünde 5 m/s
C) Doğü yönünde 25 m/s
D) Batı yönünde 25 m/s

6. Batıya doğru 10 m/s sabit hızla hareket eden bir geminin güvertesindeki yolcu, gemiye göre güneye doğru 5 m/s sabit hızla koşuyor.

Buna göre, yolcunun yere göre hızının büyüklüğü kaç m/s'dir?

- A) $5\sqrt{5}$ B) $4\sqrt{5}$ C) $3\sqrt{5}$ D) $2\sqrt{5}$

7. Yatay düzlemde durmakta olan 2 kg kütleli cisme 20 N'luk kuvvet şekildeki gibi 37° 'lik açı ile uygulanıyor.

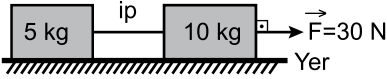


Buna göre cismin ivmesi kaç m/s^2 dir? ($\sin 37^\circ = 0,6$; $\cos 37^\circ = 0,8$)

- A) 16 B) 10 C) 8 D) 6

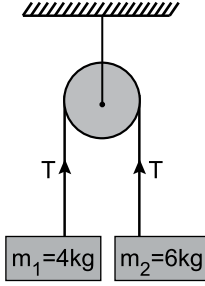
1. OTURUM

8. Kütleleri 5 kg ve 10 kg olan iki cisim sürtünmesiz ortamda 30 N'luk kuvvetle şekildeki gibi çekiliyor.



- Buna göre ivme kaç m/s^2 dir?
A) 1 B) 2 C) 3 D) 6

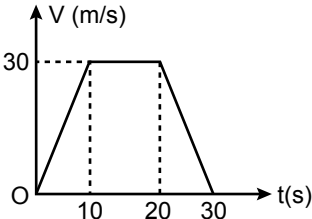
9.



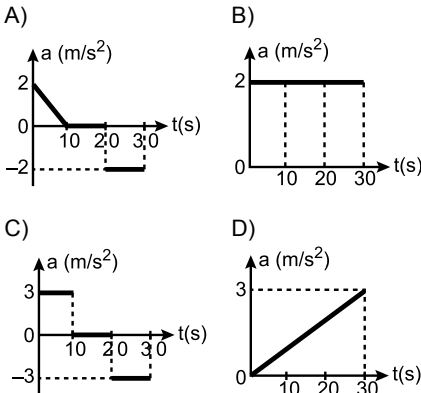
Şekildeki sürtünmesiz sistemde m_1 kütleli cismin bağlı olduğu ipteyme meydana gelen gerilme kuvveti (T) kaç Newton'dur? ($g = 10 m/s^2$)

- A) 24 B) 48 C) 64 D) 86

10. Doğrusal bir yolda hareket eden otomobile ait hız-zaman grafiği şekildeki gibidir.



Buna göre otomobilin ivme-zaman grafiği aşağıdakilerden hangisidir?



11. 20 m/s hızla giden bir kamyon sürücüsü kırmızı ışığı görünce frene basıp, sabit ivmeyle yavaşlayarak 4s sonra duruyor.

Buna göre kamyonun yavaşlama ivmesinin büyüklüğü kaç m/s^2 dir?

- A) 2 B) 5 C) 8 D) 10

12. Yerden 80 m yükseklikte bulunan bir dağcı elindeki çiviyi yere düşürüyor.

Buna göre çivinin yere düşme süresi kaç saniyedir?
(Sürtünme kuvveti ihmal ediliyor $g=10 m/s^2$)

- A) 2 B) 3 C) 4 D) 6

13. Sıvı ve gazların içerisinde hareket eden cisimlere hareketin zıt yönünde bir kuvvet etki eder. Bu kuvvet direnç kuvveti olarak isimlendirilir.

Buna göre direnç kuvveti ile ilgili

- I. Cismin hızı ile doğru orantılıdır.
II. Cismin hareket doğrultusuna dik en büyük kesit alanı ile doğru orantılıdır.
III. Ortamın yoğunluğuna veya şekline bağlı olan direnç sabiti ile doğru orantılıdır.

yargılarından hangileri doğrudur?

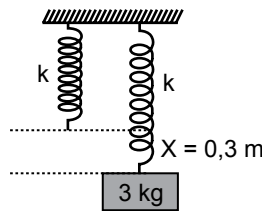
- A) I ve II. B) II ve III.
C) I ve III. D) I, II ve III.

14. Bir cisim yerden 45 m yükseklikten 30 m/s hızla yatay olarak atılıyor.

Cismin yere düşme süresi kaç saniyedir? (Sürtünme kuvveti ihmal ediliyor $g=10 m/s^2$)

- A) 2 B) 3 C) 4 D) 5

15. Ağırlığı önemsiz şekildeki yayın ucuna 3 kg kütleli cisim asıldığında yay 0,3 m uzayarak dengeye geliyor.



Buna göre yayın yay sabiti (k) kaç N/m 'dir? (Sürtünme kuvveti ihmal ediliyor $g=10 m/s^2$)

- A) 100 B) 200 C) 300 D) 400

16. Yerden 50 m yükseklikten serbest düşmeye bırakılan ve kütlesi 1 kg olan cisim yerden 10 m yükseklikte olduğunda hızı kaç m/s olur? (Sürtünme kuvveti ihmal ediliyor $g = 10 m/s^2$)

- A) $10\sqrt{2}$ B) $20\sqrt{2}$
C) $30\sqrt{2}$ D) $40\sqrt{2}$

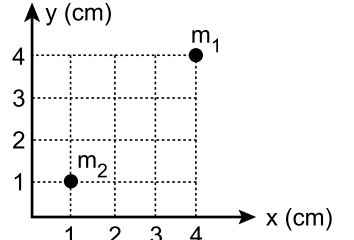
17. Esnek çarpışma ile ilgili;

- I. Çarpışma öncesinde ve sonrasında toplam momentum korunur.
II. Çarpışma öncesinde ve sonrasında toplam kinetik enerji korunur.
III. Çarpışma öncesi toplam momentum korunmaz.

yargılarından hangileri doğrudur?

- A) Yalnız I B) I ve II.
C) II ve III. D) I ve II.

18. Kütleleri $m_1 = 20 g$, $m_2 = 10 g$ olan iki parçacıktan oluşan sistem şekildeki gibidir.



Buna göre sistemin kütle merkezinin (km) koordinatları (X_{km} , Y_{km}) kaçtır?

- A) (1, 1) B) (2, 2)
C) (3, 3) D) (4, 4)

19. Türdeş 12 cm uzunluğundaki KL çubuğu ile 18 cm uzunluğundaki LM çubuğu şekildeki gibi birleştiriliyor.



Oluşan KM çubuğunun ağırlık merkezi K noktasından kaç cm uzaklıktadır?

- A) 15 B) 10 C) 5 D) 1

20. Günlük hayatta kullanılan bazı aletler aşağıda verilmiştir.

- I. Vida
II. Kriko
III. Makas

Bu aletlerden hangileri basit makine olarak adlandırılır?

- A) I ve II. B) II ve III.
C) I ve III. D) I, II ve III.

1. OTURUM

(436) KİMYA – 6

1. Aşağıda verilen madde çiftlerinden hangisinin birbiri içerisinde iyi çözünmesi beklenir?

(₁H, ₆C, ₇N, ₈O, ₁₇Cl, ₃₅Br)

- A) H₂O – CCl₄ B) Br₂ – H₂O
C) C₆H₆ – H₂O D) H₂O – NH₃

2. 40 g NaOH kullanılarak kütlece %20 lik sulu çözelti hazırlanıyor.

Buna göre bu çözelti için kullanılan su kaç gramdır?

- A) 50 B) 100 C) 160 D) 200

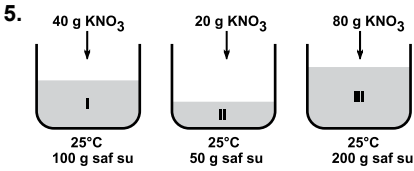
3. 0,5 M 800 mL KOH çözeltisi hazırlamak için kaç gram KOH gereklidir? (K: 39 g/mol, O: 16 g/mol, H: 1 g/mol)

- A) 0,4 B) 0,8 C) 18,4 D) 22,4

4. 5,5 gram CaCl₂ ile 50 gram su karıştırılarak çözelti hazırlanıyor. (CaCl₂: 110 g/mol)

Hazırlanan çözeltinin molalitesi kaç mol/kg'dır?

- A) 10 B) 1 C) 0,1 D) 0,01



KNO₃ tuzunun 25 °C'teki çözünürlüğü 40 g/100 g su'dur.

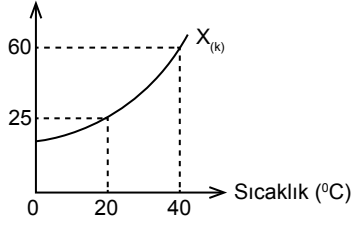
Buna göre yukarıdakilerden hangileri doymuş çözelti örneğidir?

- A) Yalnız I B) I ve III.
C) II ve III. D) I, II ve III.

6. Gazların çözünürlükleri için aşağıda verilen bilgilerden hangisi doğrudur?

- A) Bütün gazların çözünürlüğü ekzotermiktir.
B) Gazların çözünürlüğü sıcaklık arttıkça artar.
C) Gazların çözünürlüğü basınç arttıkça azalır.
D) Karıştırmak gazların çözünürlüğünü artırır.

7. Çözünürlük (g /100g H₂O)



X tuzunun çözünürlük - sıcaklık grafiğine göre 40°C sıcaklıkta 200 g su ile hazırlanan doymuş çözeltinin sıcaklığı 20°C'a düşürüldüğünde kaç gram tuz kristallenir(çöker)?

- A) 120 B) 70 C) 50 D) 35

8. Bir gazın sıkıştırılması sırasında sisteme 350 J'lük iş yapılırken sistem çevreye 270 J'lük ısı veriyor.

Buna göre;

- I. Sistemin iç enerjisi artar.
II. Sistem çevreye ısı verdiği göre ısının işareti negatiftir.
III. Sistemin iç enerji değişimi (ΔU) –80 J'dür.

İfadelerinden hangileri doğrudur?

- A) Yalnız II B) I ve II.
C) I ve III. D) II ve III.

9. "Elementlerin 25 °C, 1 atm koşullarında en kararlı hallerinin standart oluşum entalpileri sıfır kabul edilir."

Buna göre aşağıda verilen elementlerden hangisinin standart oluşum entalpisi sıfırdan farklıdır?

- A) O_(g) B) H_{2(g)}
C) N_{2(g)} D) O_{2(g)}

10. Aşağıda verilen tepkimelerden hangisinin standart şartlardaki ΔH° değeri, ΔH°_{ol} değerine eşittir?

- A) N_{2(g)}+3H_{2(g)} → 2NH_{3(g)}
B) 2SO_{2(g)}+O_{2(g)} → 2SO_{3(g)}
C) PCI_{3(g)}+Cl_{2(g)} → PCI_{5(g)}
D) C_(grafit)+O_{2(g)} → CO_{2(g)}

11. • C_(k)+ $\frac{1}{2}$ O_{2(g)}→CO_(g)ΔH°= -282,8 kJ/mol
• C_(k)+O_{2(g)}→CO_{2(g)}ΔH°= -393,5 kJ/mol
• Mg_(k)+ $\frac{1}{2}$ O_{2(g)}→MgO_(k)ΔH°= -602,5 kJ/mol

Yukarıda verilen tepkimelere göre; Mg_(k)+ CO_{2(g)} → MgO_(k)+ CO_(g) tepkimesinin ΔH° değeri kJ/mol dür?

- A) 491,8 B) 246,5
C) – 246,5 D) – 491,8

12. CH_{4(g)}+2O_{2(g)} → CO_{2(g)}+2H₂O_(g) tepkimesinin standart entalpi değişimini hesaplayabilmek için;

I. CH_{4(g)} ve CO_{2(g)}'in standart oluşum entalpileri

II. CO_(g)+ $\frac{1}{2}$ O_{2(g)} → CO_{2(g)} tepkimesinin standart entalpi değişimi

III. H₂O_(g)'un standart oluşum entalpisi

değerlerinden hangilerinin bilinmesi gerekir?

- A) Yalnız I B) I ve III.
C) II ve III. D) I, II ve III.

13. Aşağıdaki tepkimelerin hangisinde zamanla entropi azalmıştır?

- A) C₂H₅OH_(g) → C₂H₅OH_(s)
B) H₂O_(s) → H₂O_(g)
C) NaCl_(k)+ H₂O_(s) → Na⁺_(suda)+ Cl⁻_(suda)
D) 2CO_{2(g)} → 2CO_(g)+ O_{2(g)}

14. N_{2(g)}+ 3H_{2(g)} → 2NH_{3(g)} tepkimesinde N₂ gazının harcanma hızı 2.10⁻³ M/s olduğuna göre H₂ gazının harcanma hızı kaç M/s'dir?

- A) 1 · 10⁻³ B) 2 · 10⁻³
C) 4 · 10⁻³ D) 6 · 10⁻³

15. H_{2(g)}+2NO_(g) → N₂O_(g)+H₂O_(g)

tepkimesi tek basamakta gerçekleşmektedir.

Buna göre;

I. Hız bağıntısı k.[H₂].[NO]² şeklindedir.

II. Tepkime derecesi 3'tür.

III. NO derişimi 2 katına çıkarılırsa tepkime hızı da 2 katına çıkar.

İfadelerinden hangileri doğrudur?

- A) Yalnız I B) Yalnız II
C) I ve II. D) II ve III.

1. OTURUM

(441) BİYOLOJİ – 1

16. $Mg(OH)_{2(k)} \rightleftharpoons Mg^{2+}_{(suda)} + 2OH^{-}_{(suda)}$ tepkimesinin denge bağıntısı aşağıdakilerden hangisidir?

- A) $K_c = [Mg^{2+}][OH^{-}]^2$
B) $K_c = [Mg^{2+}][2OH^{-}]$
C) $K_c = [Mg(OH)_2]$
D) $K_c = [OH^{-}]^2$

17. I. $KClO_{3(k)} \rightleftharpoons KCl_{(k)} + \frac{3}{2}O_{2(g)}$
II. $2NOCl_{(g)} \rightleftharpoons 2NO_{(g)} + Cl_{2(g)}$
III. $S_{(k)} + O_{2(g)} \rightleftharpoons SO_{2(g)}$

Verilen denge tepkimelerinden hangileri heterojen denge tepkimesidir?

- A) Yalnız II B) I ve II.
C) I ve III. D) I, II ve III.

18. $N_{2(g)} + 2O_{2(g)} \rightleftharpoons N_2O_{4(g)}$ tepkimesi sabit sıcaklıkta ve sabit hacimli bir kapta dengede iken kaba bir miktar N_2 gazı gönderiliyor.

Bu durumda;

- I. Denge ürünler yönüne kayar.
II. N_2O_4 derişimi azalır.
III. O_2 derişimi artar.

bilgilerinden hangileri doğrudur?

- A) Yalnız I B) Yalnız III
C) II ve III. D) I, II ve III.

19. 25 °C'ta 0,1 M NaOH çözeltisinin pH değeri aşağıdakilerden hangisidir?

- A) 1 B) 2 C) 13 D) 14

20. HgS katısının 25 °C sıcaklıktaki çözünürlük çarpımı $4 \cdot 10^{-54}$ tür.

Buna göre, aynı sıcaklıkta HgS katısının saf sudaki çözünürlüğü kaç mol/L'dir?

- A) $2 \cdot 10^{-27}$ B) $2 \cdot 10^{-54}$
C) $4 \cdot 10^{-27}$ D) $4 \cdot 10^{-54}$

1. Biyoloji bilimindeki gelişmeler,

- I. İlaç üretiminde
II. Kök hücre tedavisinde
III. Hastalıkların teşhis ve tedavisinde

verilen uygulamalardan hangilerini olumlu etkilemiştir?

- A) Yalnız I B) I ve II.
C) I ve III. D) I, II ve III.

2. Aşağıdakilerden hangisi canlıların ortak özelliklerinden biri değildir?

- A) Oksijenli solunum yapma
B) Atık maddeleri boşaltma
C) Uyarılara tepki verme
D) Büyüme ve gelişme

3. İyi bir hipotez için;

- I. Test edilebilir olmalı
II. Tahminlere açık olmalı
III. Eldeki verilere ters düşmemeli

ifadelerinden hangileri doğrudur?

- A) Yalnız I B) I ve II.
C) II ve III. D) I, II ve III.

4. Kontrollü deney düzeneklerinde etkisi araştırılan koşul aşağıdakilerden hangisi ile ifade edilir?

- A) Kontrol grubu
B) Bağımsız değişken
C) Sabit değişken
D) Bağımlı değişken

5. Yeryüzündeki bitki, hayvan ve diğer canlıları inceleyen, deneyden çok gözleme dayanan ayrıca biyolojinin diğer çalışma alanlarından farklı olarak, bilimsel dergilerin yanında yazılı ve görsel medyada da yer bulan bilim dalı aşağıdakilerden hangisidir?

- A) Doğa tarihi
B) Deniz biyolojisi
C) Kriminal biyoloji
D) Doğa koruma uzmanlığı

6. Aşağıdakilerden hangisi hücresel yapı organizasyonunda hücreden daha küçük bir birim değildir?

- A) Su B) Atom
C) Organ D) Molekül

7. Aşağıdakilerden hangisi inorganik bileşiklerden birisidir?

- A) Su B) Yağ
C) Vitamin D) Nükleik asit

8. Aşağıdakilerden hangisi mineraler için yanlış verilmiştir?

- A) Enerji kaynağı değildir.
B) Enzim yapısına katılır.
C) Hücre zarından geçemez.
D) Yiyeceklerle vücuda alınır.

9. Aşağıdakilerden hangisi tüm monosakkaritler ile ilgili yanlış bir açıklamadır?

- A) Karbonhidratların yapı taşlarıdır.
B) Enerji verici olarak kullanılmazlar.
C) Hücre zarındaki porlardan geçerler.
D) Sindirimle daha küçük birimlere parçalanmazlar.

10. Su moleküllerinin birbirinden kopmadan bir arada kalmaları özelliğine kohezyon adı verilir.

Suyun bu özelliğinin;

- I. Ortam sıcaklığının korunması
II. Bitkilerde su ve mineral taşınması
III. Böceklerin su üstünde yürüebilmesi

olaylarından hangilerinin gerçekleşmesinde rolü vardır?

- A) Yalnız I B) Yalnız II.
C) II ve III. D) I, II ve III.

11. Aşağıdakilerden hangisi yağlar için yanlış verilmiştir?

- A) Hücre zarının yapısına katılır.
B) Yapı taşı yağ asidi ve glikozdur.
C) İkinci derece enerji kaynağıdır.
D) Depolandığında ısı yalıtımını sağlar.

12. I. Dokuların onarımı

- II. Madde geçişi
III. Bağışıklığın sağlanması

Yukarıdaki olayların hangilerinde proteinler görev alır?

- A) Yalnız I B) I ve III.
C) II ve III. D) I, II ve III.

13. Aşağıdakilerden hangisi vitaminler için yanlış verilmiştir?

- A) Düzenleyicidir.
B) Direnç artırır.
C) Enerji kaynağıdır.
D) Hücre zarından geçebilir.

1. OTURUM

(443) BİYOLOJİ – 3

14. Hücrelerde protein sentezinin gerçekleştiği organel aşağıdakilerden hangisidir?

- A) Lizozom B) Ribozom
C) Golgi aygıtı D) Koful

15. I. Hücreye desteklik sağlar.
II. Hücre içinde madde taşınmasını gerçekleştirir.
III. Bitkisel hücrelerde ara lamel oluşumunu sağlar.

Yukarıdakilerden hangileri endoplazmik retikulumun özelliklerindedir?

- A) Yalnız I B) I ve II.
C) II ve III. D) I, II ve III.

16. I. Hücreyi dış ortamdan ayırır.
II. Hücrede madde alış verişini düzenler.
III. Yapısında yağ, protein ve karbonhidratlar bulunur.

Yukarıdakilerden hangileri hücre zarının özelliklerindedir?

- A) Yalnız I B) I ve II.
C) II ve III. D) I, II ve III.

17. Aşağıdakilerden hangisi pasif madde taşınmasının özelliklerinden biri değildir?

- A) ATP harcanmaz.
B) Canlı ve cansız ortamlarda görülebilir.
C) Madde geçişi az yoğunundan çok yoğun ortama doğrudur.
D) Difüzyon, kolaylaştırılmış difüzyon ve osmoz gibi çeşitleri vardır.

18. Aşağıdakilerden hangisinin azalması difüzyon hızını artırır?

- A) Sıcaklık
B) Por sayısı
C) Yoğunluk farkı
D) Molekül büyüklüğü

19. Aşağıdakilerden hangisi prokaryot ve ökaryot hücrelerde ortak olarak bulunur?

- A) Ribozom B) Mitokondri
C) Golgi aygıtı D) Çekirdek zarı

20. Aşağıdakilerden hangisi hücre iskeleti elemanlarından biri değildir?

- A) Makrotübüller
B) Mikrotübüller
C) Ara filamentler
D) Mikrofilamentler

1. Mitoz bölünme sırasında kromozomların en belirgin görüldüğü evre aşağıdakilerden hangisidir?

- A) Profaz B) Metafaz
C) Anafaz D) Telofaz

2. Aşağıdakilerden hangisi mitoz bölünmenin telofaz safhasında meydana gelen bir olaydır?

- A) Kromozomların etrafında yeniden çekirdek zarı oluşması
B) Kromatitlerin kutuplara çekilmeye başlaması
C) Kromozomların ekvatorial düzlemde dizilmesi
D) Sentrozomlar arasında iğ ipliklerinin oluşması

3. Bitki ve hayvan hücrelerinde sitoplazma bölünmesi ile ilgili olarak aşağıdakilerden hangisi yanlıştır?

- A) Her iki bölünme sonucunda iki yavru hücre meydana gelir.
B) Hayvan hücrelerinde boğumlanma, bitki hücrelerinde ara lamel oluşumu ile gerçekleşir.
C) Bitki hücrelerinde golgi aygıtından kopan kesecikler hücrenin ortasında ara lameli oluşturur.
D) Hayvan hücresinde sitoplazma bölünmesi çekirdek bölünmesinden önce gerçekleşir.

4. Afrika menekşesinden alınan bir yaprağın köklendirilerek yeni bir bitki elde etme yöntemi aşağıdakilerden hangisi ile isimlendirilir?

- A) Bölünme
B) Sporlanma
C) Vegetatif üreme
D) Tomurcuklanma

5. Aşağıda verilen üreme tiplerinden hangisinde ana bireyler ile aynı kalıtsal özelliklere sahip yavrular meydana gelmez?

- A) Tomurcuklanma
B) Konjugasyon
C) Sporla üreme
D) Bölünerek üreme

6. $2n=8$ kromozumlu bir hücre arka arka 4 mitoz bölünme gerçekleştiriyor.

Buna göre sonuçta oluşan hücre sayısı ile her bir hücrenin kromozom sayısı aşağıdakilerden hangisinde doğru verilmiştir?

	Hücre Sayısı	Kromozom Sayısı
A)	4	8
B)	8	4
C)	12	4
D)	16	8

7. Aşağıdaki bitkilerden hangisi yumru gövdenin oluşturduğu sürgünlerle vejetatif olarak üreme gösterir?

- A) Çilek
B) Soğan
C) Patates
D) Afrika menekşesi

8. Homolog kromozomların birbirinden ayrılarak kromozom sayısının yarıya inmesini sağlayan mayoz bölünme evresi aşağıdakilerden hangisidir?

- A) Profaz I B) Anafaz I
C) Telofaz I D) Anafaz II

9. Bakterilerde eşey piluslarının oluşumu için gerekli bilgiyi taşıyan ve kendini eşleyebilen halkasal DNA molekülü aşağıdakilerden hangisidir?

- A) Plazmit B) Partenogenez
C) Konjugasyon D) Eşeysiz üreme

10. I. Sonucunda canlı sayısı artar.
II. Genetik bilgi aktarımı tek taraflıdır.
III. Çekirdek mayoz bölünme geçirir.

Verilenlerden hangileri bakterilerdeki konjugasyon için doğrudur?

- A) Yalnız I B) Yalnız II
C) I ve II. D) II ve III.

11. Döllenenmiş yumurtanın gelişerek n kromozumlu bireyleri oluşturması şeklinde gerçekleşen üreme çeşidi aşağıdakilerden hangisidir?

- A) Oogenez B) Konjugasyon
C) Partenogenez D) Rejenerasyon

1. OTURUM

12. I. Folikül evresi
II. Korpus luteum evresi
III. Ovulasyon evresi
Verilen menstrual döngü evrelerinin oluşum sırası aşağıdakilerden hangisinde doğru gösterilmiştir?
- A) I – II – III B) II – III – I
C) III – I – II D) I – III – II
13. I. Ovulasyonu uyarır.
II. Korpus luteumdan oksitosin salgılatır.
III. Korpus luteumun devamını sağlar.
Verilenlerden hangileri LH (Lüteinleştirici hormon) etkisiyle meydana gelir?
- A) Yalnız I B) Yalnız II
C) I ve III. D) II ve III.
14. Aşağıdakilerden hangisi erkek üreme sistemine ait bir yapı değildir?
- A) Fallopi tüpü
B) Vas deferens
C) Semifer tüpçük
D) Epididimis
15. Erkek üreme sisteminde oluşan hücrelerden hangisi 2n (diploit) kromozomludur?
- A) Birincil spermatosit
B) İkincil spermatosit
C) Spermatit
D) Sperm
16. AİDS vücudumuzda hangi sistemin işleyişine zarar verir?
- A) Sindirim sistemi
B) Dolaşım sistemi
C) Bağışıklık sistemi
D) Sinir sistemi
17. I. Günümüzde tedavisi yada aşısı yoktur.
II. Etkeni kanda bulunduğundan kan yolu ile de bulaşabilir.
III. Hastalık etkeni taşıyan kişilerle cinsel ilişkiye girildiğinde bulaşabilir.
Verilenlerden hangileri cinsel yolla bulaşan hastalıklardan biri olan AİDS'in özelliklerindedir?
- A) Yalnız I B) Yalnız II
C) I ve III. D) I, II ve III.

18. Bir kuş yumurtasında embriyoyu koruyan zarlardan en içte bulunan zar aşağıdakilerden hangisidir?
- A) Koriyon B) Amniyon
C) Allantoyis D) Vitellüs kesesi
19. İnsanda embriyonik gelişim basamaklarının oluşum sırası aşağıdakilerden hangisinde doğru verilmiştir?
- A) Segmentasyon – Gastrulasyon – Organogenez
B) Gastrulasyon – Segmentasyon – Organogenez
C) Organogenez – Gastrulasyon – Segmentasyon
D) Segmentasyon – Organogenez – Gastrulasyon
20. Plasentalı memelilerde;
I. Amniyon
II. Vitellüs kesesi
III. Allantoyis
yapılarından hangileri bulunmaz?
- A) Yalnız I B) Yalnız II
C) Yalnız III D) II ve III.

(446) BİYOLOJİ – 6

1. I. Kıkırdak dokunun ara maddesi kondrindir.
II. Kıkırdak doku hücrelerine kondrosit adı verilir.
III. Kıkırdak dokuda bol miktarda kan damarı bulunur.
Yukarıdakilerden hangileri kıkırdak doku için doğrudur?
- A) Yalnız I B) I ve II.
C) II ve III. D) I, II ve III.
2. Aşağıdakilerden hangisi oynar eklemlerin özellikleri düşünüldüğünde doğru olur?
- A) Sınırlı oranda hareket eden eklemlerdir.
B) Eklem kapsülü ve sinovial sıvı bulundurmazlar.
C) Kafatası kemikleri arasında bulunan eklemler örnek gösterilebilir.
D) Eklem yapan kemiklerin birbirine bakan yüzeyleri eklem kıkırdağı ile örtülüdür.

3. I. Düz kas
II. İskelet kası
III. Kalp kası
Yukarıda verilen kas çeşitlerinden hangileri isteğimiz dışında çalışır?
- A) Yalnız I B) I ve III.
C) II ve III. D) I, II ve III.
4. Aşağıdakilerden hangisi omurga kemikleri arasındaki kıkırdak disklerin yapısının bozulması nedeniyle ortaya çıkan iskelet sistemi rahatsızlığıdır?
- A) Bel fıtığı B) Raşitizm
C) Menisküs D) Osteomalazi
5. Yağların sindirimi sindirim sisteminin hangi kısmında gerçekleşir?
- A) Ağız
B) Mide
C) İnce bağırsak
D) Kalın bağırsak
6. I. Kedi dişleri
II. Kesici dişler
III. Küçük azı dişleri
Yukarıdakilerden hangileri insanda bulunan diş çeşitlerindedir?
- A) Yalnız I B) I ve II.
C) II ve III. D) I, II ve III.
7. Aşağıdaki enzimlerden hangisi karbohidratların sindiriminde görev alan enzimlerden biri değildir?
- A) Lipaz B) Maltaz
C) Amilaz D) Laktaz
8. Mide ve onikiparmak bağırsağının mukozasında yara oluşması şeklinde ortaya çıkan sindirim sistemi hastalığı aşağıdakilerden hangisidir?
- A) İshal
B) Ülser
C) Kabızlık
D) Laktoz hassasiyeti
9. Aşağıdaki damarların hangisinde oksijen bakımından zengin kan bulunur?
- A) Akciğer atardamarı
B) Alt ana toplardamar
C) Akciğer toplardamarı
D) Üst ana toplardamar

1. OTURUM

10. Kalbin çalışma hızını etkileyen faktörlerle ilgili aşağıdakilerden hangisi doğrudur?

- A) Kanın pH'ının azalması kalbin çalışma hızını azaltır.
- B) Adrenalin ve tiroksin hormonları kalbin çalışma hızını artırır.
- C) Vücut sıcaklığının 1°C artması kalbin atış hızını 10 atım/dakika azaltır.
- D) Kalbin çalışma hızını sempatik sinirler azaltırken parasempatik sinirler artırır.

11. I. Ömürleri yaklaşık 120 gündür.
II. Kan içinde en fazla bulunan kan hücresi çeşitlidir.
III. Yapısında hemoglobin denilen demir içeren protein bulunur.

Verilenlerden hangileri alyuvarlar için doğrudur?

- A) Yalnız I
- B) I ve II.
- C) I ve III.
- D) I, II ve III.

12. Kan gruplarının taşıdığı antijen ve antikorlarla ilgili aşağıdakilerden hangisi doğrudur?

- A) B kan grubu, B antijeni taşıyıcı ve anti A antikorunu üretebilir.
- B) 0 kan grubunda A ve B antijeni varken, antikor üretimi görülmez.
- C) A kan grubu, A antijeni taşıyıcı ve anti A antikorunu üretebilir.
- D) AB kan grubunda A ve B antijeni bulunur ayrıca anti A ve anti B antikorunu üretebilir.

13. Burundan alınan havanın alveollere ulaşmaya kadar izlediği yol aşağıdakilerden hangisinde doğru olarak verilmiştir?

- A) Yutak – gırtlak – soluk borusu – bronş – bronşçuk
- B) Gırtlak – yutak – soluk borusu – bronşçuk – bronş
- C) Yutak – gırtlak – bronş – soluk borusu – bronşçuk
- D) Yutak – gırtlak – soluk borusu – bronşçuk – bronş

14. Bronşöllerin uç kısımlarında özüm salkımına benzeyen, gaz değişiminin gerçekleştiği, yüzeyi artırıldığı tek katlı epitelden oluşan keselerdir.

Yukarıda tanımlanan verilen solunum sistemi yapısı aşağıdakilerden hangisidir?

- A) Yutak
- B) Gırtlak
- C) Alveoller
- D) Soluk borusu

15. Aşağıdakilerden hangisi solunum sistemi hastalıklarından biri değildir?

- A) Astım
- B) Vurgun
- C) Pnömoni
- D) Osteoporoz

16. Aşağıdakilerden hangisi idrar oluşumunun aşamalarından biri değildir?

- A) Süzülme
- B) Salgılama
- C) Ayırıştırma
- D) Geri emilim

17. Üre derişiminin en fazla olduğu boşaltım sistemi kısmı aşağıdakilerden hangisidir?

- A) Üreter
- B) Distal tüp
- C) Henle kulpu
- D) Proksimal tüp

18. I. Kanın pH'ını ayarlar.
II. Azotlu atıklar olan üre ve ürik asidin vücuttan uzaklaştırılmasını sağlar.
III. Alyuvar yapımını sağlayan hormon olan eritropoietin hormonunu üretir.

Verilenlerden hangileri boşaltım sisteminin görevleri arasında yer alır?

- A) Yalnız I
- B) I ve II.
- C) I ve III.
- D) I, II ve III.

19. Davranışı inceleyen bilim dalı aşağıdakilerden hangisidir?

- A) Sitoloji
- B) Etoloji
- C) Anatomi
- D) Morfoloji

20. Klasik koşullanma (Şartlı koşullanma) ile ilgili ilk çalışmayı aşağıdaki bilim insanlarından hangisi gerçekleştirmiştir?

- A) İvan Pavlov
- B) Wolfgang Köhler
- C) Konrad Zacharias Lorenz
- D) Burrhus Frederic Skinner

(461) EKONOMİ – 1

1. Aşağıda verilenlerden hangisi dolaylı tüketim için bir örnektir?

- A) Bir elbisenin kullanılması
- B) Meyve ve sebzenin yenmesi
- C) Bir otobüste seyahat edilmesi
- D) Ekmek üretimi için unun kullanılması

2. Nüfusun cinsiyet, kalite, yaş ve meslek bakımından oluşumunu belirten inceleme konusu aşağıdakilerden hangisidir?

- A) Nüfus yapısı
- B) Nüfus sayısı
- C) Nüfus yoğunluğu
- D) Nüfus hareketi

3. Aşağıdakilerden hangisi ülkemizin hidroelektrik santrallerinden biridir?

- A) Yatağan
- B) Tunçbilek
- C) Seyitömer
- D) Keban

4. Amacı mal veya hizmet üretmek olmayan faaliyetler ekonomide emek kabul edilmezler.

Buna göre aşağıdaki örnek faaliyetlerden hangisi gerçek anlamda bir emek değildir?

- A) Sporculuğu meslek olarak yapmak
- B) Konaklama işletmesinde çalışmak
- C) Zevk için dağ sporu yapmak
- D) Taksi şoförlüğü yapmak

5. Aşağıdakilerden hangisi üretim faaliyeti sonucunda değişikliğe uğrar?

- A) Binalar
- B) Makineler
- C) Ham maddeler
- D) Ulaşım araçları

6. Özel sektörün yetersiz kalması sonucu, ekonomik alanda belirli bir dönem ülkemizde uygulanan Atatürk ilkesi aşağıdakilerden hangisidir?

- A) Devletçilik
- B) Halkçılık
- C) Milliyetçilik
- D) Cumhuriyetçilik

7. Kâr amacıyla mal ve hizmet üretim faaliyetinde bulunmak için üretim faktörlerinin organize edildiği ekonomik ünitelere ne ad verilir?

- A) Büro
- B) Girişim
- C) Mağaza
- D) Fabrika

1. OTURUM

8. Pirinç fiyatlarının aşırı yükselmesiyle tüketicilerin bulgura daha fazla yönelmeleri aşağıdakilerden hangisine örnek olur?

- A) Fizyolojik ihtiyaçların kapsam bakımından sınırlı olmasına
- B) İhtiyaçların kişiden kişiye değişken olmasına
- C) İhtiyaçların birbirinin yerine geçmesine
- D) İhtiyaçların sınırsız olmasına

9. Aşağıda verilene yönelik alınacak önlemlerden hangisi ekonomi politikasının nicelik belirleyen vasıtalarından olamaz?

- A) Özelleştirme
- B) Vergi oranları
- C) Asgari ücret
- D) Çalışma süreleri

10. İnsanda yokluk duygusuyla birlikte ortaya çıkan, karşılandığında mutluluk, karşılanmadığında ise üzüntü veren biyolojik ve ekonomik isteklere ne denir?

- A) Fayda
- B) Kıymet
- C) Tüketim
- D) İhtiyaç

11. İyi işletilmeyen bir fabrikanın başkaları tarafından satın alınarak daha faydalı şekilde çalıştırılması, hangi üretim faaliyeti ile açıklanabilir?

- A) Mülkiyet faydası meydana getiren üretim faaliyetleri
- B) Mekan faydası yaratan üretim faaliyetleri
- C) Zaman faydası meydana getiren üretim faaliyetleri
- D) Şekil faydası yaratan üretim faaliyetleri

12. Aşağıdakilerden hangisi hızlı nüfus artışının olumsuz sonuçlarından biridir?

- A) İç ve dış güçler artar.
- B) Ekonomik faaliyetler hızlanır.
- C) Ülke kaynakları kolay işletilir.
- D) Üretici güç olarak emek artışı olur.

13. Ülkemiz akarsularından faydalanılmasında, aşağıdakilerden hangisinin olumsuz bir etki yaratmadığı kabul edilebilir?

- A) Yüzey şekillerinin engebelik bir alan kaplaması
- B) Akarsular üzerinde barajların yapılması
- C) Akarsuların sel rejimine bağlı olması
- D) İklimin dört mevsimde değişiklikler göstermesi

14. Aşağıda verilenlerden hangisi vasıfsız emeğe bir örnektir?

- A) Terzilik
- B) Kunduracılık
- C) Temizlikçilik
- D) Mobilyacılık

15. Aşağıdakilerden hangisi dolaylı tüketimdir?

- A) Tatile gidilerek otelde konaklama yapılması
- B) Kumaş üretiminde yünün kullanılması
- C) Otobüste seyahat edilmesi
- D) Elbisenin giyilerek eskitilmesi

16. Üretim faaliyeti süresince malın şeklinin değişmesi ve madde yerine başka bir maddenin geçmesi durumu, üretim ile ilgili aşağıda verilen ekonomik görüşlerden hangisini açıklamaktadır?

- A) Üretim, madde meydana getirmektir.
- B) Üretim, değer meydana getirmektir.
- C) Üretim, ekonomik malların miktarını artırmaktır.
- D) Üretim, ekonomik malların faydasını artırmaktır.

17. Ekonomide fiyat artış hızının yavaşlatılması, fiyatlarda az çok uzun bir süre içinde büyük oranlı değişmelerin önlenmesi, aşağıda verilen ekonomi politikasının başlıca hedeflerinden hangisiyle ilgilidir?

- A) Tam İstihdam
- B) Ekonomik Denge
- C) Hakça Gelir Dağılımı
- D) Ekonomik Büyüme ve Kalkınma

18. İnsanların siyah-beyaz televizyon yerine renkli televizyonu seçmeleri aşağıda verilen ihtiyaç yasalarından hangisine bir örnek teşkil eder?

- A) Tüm ihtiyaçlar fizyolojiktir.
- B) İhtiyaçlar birbirine rakiptir.
- C) Bazı ihtiyaçların kapasiteleri sınırlıdır.
- D) İhtiyaçların miktarı sınırsızdır.

19. Aşağıda verilen açıklamalardan hangisi tümdengelimin yetersizliklerinden biri değildir?

- A) Olaylarla olan ilimiz kesilebilir.
- B) Bizi gözlemden yoksun bırakabilir.
- C) Somut şartlar üzerinden olayları inceler.
- D) Gerçeğe uygunluk kontrolü yapmamıza engel olabilir.

20. Devletin, bazı malların ithal ve ihracını yasaklayan önlemleri, ekonomi politikasının hangi vasıtaları olarak adlandırılır?

- A) Emredici
- B) Nicelik Belirleyen
- C) Nitelik Belirleyen
- D) Yönlendirici

(465) TEMEL DİNİ BİL. – 1

1. Akıl sahibi insanları özgür iradeleri ile dünyada iyiye, doğruya ve güzele; ahirette ise ebedi mutluluğa ulaştırmayı amaçlayan ilahi kanunlar bütünüdür.

Tanımı verilen kavram aşağıdakilerden hangisidir?

- A) Din
- B) İman
- C) Ahlak
- D) İbadet

2. Çok tanrıcılık anlamına gelir. İlkel kabilelerde görülen bir inançtır. Bu tanrılar arasında belli bir görev taksimatı vardır. Şintoizm, Hinduizm ve Zerdüşlük bu inanca sahip dinlerdendir.

Hakkında bilgi verilen inanma biçimi aşağıdakilerden hangisidir?

- A) Agnostizm
- B) Monoteizm
- C) Politeizm
- D) Gnostizm

3. Aşağıdakilerden hangisi İslam dininin bireye sağladığı faydalardan biri değildir?

- A) İnsanın kendisine olan güvenini artırır.
- B) İnsan ruhunun isteklerine cevap verir.
- C) İnsanın dünyaya olan düşkünlük ve bağlılığını artırır.
- D) İnsanın yeryüzündeki anlam arayışına karşılık verir.

4. Aşağıdakilerden hangisi Doğu Asya dinleri arasında yer alır?

- A) Sihizm
- B) Budizm
- C) Caynizm
- D) Şintoizm

5. Yahudi kaynaklarına göre İsrailoğullarının tarihi hangi peygamberle başlar?

- A) Hz. İbrahim
- B) Hz. Âdem
- C) Hz. Musa
- D) Hz. Davut

1. OTURUM

6. I. Hinduizm
II. Taoizm
III. İsevilik
IV. Musevilik

Verilenlerden hangileri ilahi olmayan dinlerdendir?

- A) I ve II. B) I ve IV.
C) II ve III. D) III ve IV.

7. Aşağıdakilerden hangisi İslam'ın temel özelliklerinden biri değildir?

- A) Bütün insanlara gönderilmiş evrensel bir dindir.
B) Günümüze kadar gelen ve bozulmayan son dindir.
C) İslam'a göre önce inanmak sonra araştırmak gerekir.
D) İslam, bütün peygamberlere gönderilen ilahi mesajların adıdır.

8. Aşağıdaki tarihlere ait bilgilerden hangisi yanlıştır?

- A) 571-Hz. Peygamber'in doğumu
B) 610-Hz. Peygamber'in ilk evliliği
C) 622-Mekke'den Medine'ye hicret
D) 632-Hz. Muhammed'in vefat ettiği yıl

9. Kelimeitevhid'in anlamı aşağıdakilerden hangisidir?

- A) Rahman ve rahim olan Allah yücedir.
B) Allah vardır ve her şeye kadirdir.
C) Allah'ın eşi ve benzeri yoktur.
D) Allah'tan başka ilah yoktur.

10. Aşağıdakilerden hangisi iman esaslarından biri değildir?

- A) Allah'a iman
B) Ahiret gününe iman
C) Peygamberlere iman
D) Akla iman

11. Allah'ın var olmak için başka bir varlığa ihtiyacının olmadığını ifade eden sıfatı aşağıdakilerden hangisidir?

- A) Kıdem
B) Vahdaniyet
C) Kıyam bi nefsihi
D) Muhalefetün il havadis

12. Allah'ın dilediğini yoktan yaratması anlamına gelen sıfat aşağıdakilerden hangisidir?

- A) Kudret B) Tekvin
C) Hayat D) Kelam

13. "Onlar bilmiyorlar mı ki, Allah gizlediklerini de açıkladıklarını da bilir."
(Bakara suresi, 77. ayet)

Bu ayet Allah'ın subuti sıfatlarından hangisini ifade etmektedir?

- A) Basar B) İlim
C) İrade D) Semi

14. Aşağıdakilerden hangisi meleklerin özelliklerinden biri değildir?

- A) Ölümsüz olmaları
B) Hızlı hareket etmeleri
C) Çeşitli suretlere girmeleri
D) Fizik ötesi varlıklar olmaları

15. İnsanları bela ve musibetlerden koruyan melekler aşağıdakilerden hangisidir?

- A) Kiramen-Kâtibin melekleri
B) Hafaza melekleri
C) Münker-Nekir melekleri
D) Ridvan melekleri

16. Aşağıdakilerden hangisi cüzi iradenin bir sonucudur?

- A) Yerçekimi kanunu
B) Güneş'in doğudan doğması
C) Kişinin iyi veya kötüyü tercih etmesi
D) Kişinin hangi aileden dünyaya geleceği

17. I. Kader, Allah'ın ezeli ilmidir.
II. Kaza, Allah'ın olacak olan şeyleri önceden planlamasıdır.
III. İnsan yaptıklarından iradesi oranında sorumludur.
IV. İnsanın başına gelen her şey onun kaderidir.

Numaralanmış ifadelerden hangileri doğrudur?

- A) I ve II. B) I ve III.
C) II ve III. D) III ve IV.

18. Aşağıdaki ibadetlerin hangisinde abdest almak farzdır?

- A) Dua etmek
B) Namaz kılmak
C) Kabir ziyareti yapmak
D) Ezberden Kur'an okumak

19. Aşağıdakilerden hangisi namazın rükünlerinden değildir?

- A) Başlama tekbiri
B) Kıraat
C) Kıyam
D) Niyet

20. Aşağıdakilerden hangisi haccın farzlarından biri değildir?

- A) Sa'y yapmak
B) İhrama girmek
C) Kâbe'yi tavaf etmek
D) Arafat'ta vakfe yapmak

(477) İŞLETME – 2

1. Para, fon ya da sermaye, aşağıdaki kavramlardan hangisi ile ifade edilir?

- A) Finans
B) Finansman
C) Finansal yönetim
D) Finansman fonksiyonu

2. Neo-Klasik Yönetim Teorisi, aşağıda verilen kavramlardan hangisi üzerinde durmaz?

- A) Tatmin
B) Motivasyon
C) Hiyerarşik yapı
D) Kararlara katılma

3. İşletme amaçlarının gerçekleştirilebilmesi için, işletmenin tüm birimlerinin ve çalışanların uyum içinde hareket etmesinin sağlanması, yönetim fonksiyonlarından hangisi ile ilgilidir?

- A) Denetim
B) Yürütme
C) Koordinasyon
D) Organizasyon

4. Planlamanın işletmeye sağlayacağı faydalar düşünüldüğünde, aşağıdakilerden hangisi uygun bir açıklama değildir?

- A) İşletmenin etkin bir denetimden korunmasını sağlar.
B) İşletme kaynaklarının verimli kullanılmasını sağlar.
C) Yöneticilere geleceği tahmin etme yeteneği kazandırır.
D) İşletmenin bölümleri arasındaki koordinasyonu sağlar.

5. Aşağıdakilerden hangisi yönetimin özelliklerine uygun bir açıklamadır?

- A) Yönetim tek kişi faaliyetidir.
B) Yönetim bir yetki faaliyetidir.
C) Yönetim tek yönlü bir faaliyetidir.
D) Yönetilenlerin karar verdiği bir süreçtir.

1. OTURUM

6. Bir işletmenin öz kaynaklarına yönelik yapılan açıklamalardan hangisi doğru değildir?

- A) Devamlı bir kaynak niteliği taşır.
- B) Ortaklarca konan fonlar öz kaynaklardır.
- C) Bu kaynaklar, vadeli kaynaklardır.
- D) Maddi olmayan kaynaklar şeklindeki de olabilir.

7. Bir tüketicinin çay demlemek üzere çayı marketten satın alması, pazarlamanın faydalarından hangisi ile açıklanabilir?

- A) Yer faydası
- B) Şekil faydası
- C) Zaman faydası
- D) Mülkiyet faydası

8. Reklamın özelliklerine yönelik yapılan açıklamalardan hangisi yanlıştır?

- A) Reklam yapan kişi bellidir.
- B) Reklam kişisel bir sunuştur.
- C) Reklam için bir bedel ödenir.
- D) Reklam bir kitle iletişimdir.

9. Bazı işletmelerin, toptancı yerine acente veya komisyoncu vasıtasıyla perakendecilere, özellikle büyük perakendecilere ulaşmayı tercih etmeleri, hangi dağıtım kanalını kullanacaklarını göstermektedir?

- A) Üretici – Acente – Perakendeci – Tüketici
- B) Üretici – Toptancı – Perakendeci – Tüketici
- C) Üretici – Acente – Toptancı – Tüketici
- D) Üretici – Toptancı – Acente – Tüketici

10. Bir işletme ürünlerini tüketicilere doğrudan dağıtım yoluyla ulaştırıyorsa aşağıdakilerden hangisi oluşmuş olan uygun şartlardan birisidir?

- A) Üretim hızının tüketim hızından fazla olması
- B) Tüketici ya da müşteri sayısının fazla olması
- C) Birim fiyatının yüksek olması
- D) Üretim – tüketim noktaları arası mesafenin uzak olması

11. Tüketiciler bir malı veya hizmeti satın aldıklarında, bu mal veya hizmet ile ilgili davranışlarını, beğenilerini ve görüşlerini üretimin hangi temel ögesini esas alarak oluştururlar?

- A) Girdi
- B) İşlem
- C) Geri Bildirim
- D) Çıktı

12. Stoklar belirli bir düzeye düştüğünde, önceden belirlenmiş miktarın sipariş edilmesi ve sürekli stok sayımının yapılması, hangi stok kontrol yönteminin kullanıldığını göstermektedir?

- A) Gözle kontrol yöntemi
- B) Sabit sipariş süresi yöntemi
- C) Sabit sipariş miktarı yöntemi
- D) Stoksuz malzeme yönetim sistemi

13. Aşağıdakilerden hangisi işletmelerin gelirleri artırmak ve giderleri azaltmak amacıyla aldıkları tedbirlerden birisi değildir?

- A) Üretim süresini artırmak
- B) Üretimde kaliteyi artırmak
- C) Seri üretim yapmak
- D) Girdileri uygun fiyattan almak

14. Yapılan açıklamalardan hangisi, bir işletmede performans değerlendirilmesinin çalışanlar üzerindeki etkilerinden birine yönelik değildir?

- A) Yöneltilir.
- B) Yarıştırılır.
- C) Motive eder.
- D) İşletmeye olan güveni artırır.

15. Oryantasyon eğitiminde aşağıdaki bilgilerden hangisi verilmez?

- A) İşletmenin tanıtımı
- B) İşle ilgili bilgilerin aktarımı
- C) Personel haklarının açıklanması
- D) Amirlerin siyasi görüşleri

16. I. Aylık Ödeme
II. İhbar Tazminatı
III. Mağduriyet Aylığı
IV. Kıdem Tazminatı

İşletmelerin işten çıkardığı personeline yapacakları zorunlu ödemeler hangi seçenekte doğru olarak verilmiştir?

- A) Yalnız I
- B) I ve II.
- C) II ve IV.
- D) III ve IV.

17. İşletmelerin çevreye karşı sorumlulukları dikkate alındığında, bir işletmenin kuruluş yeri seçiminin doğru yapılmamasının ortaya çıkacağı sonuçlara, aşağıdakilerden hangisi örnek olarak gösterilemez?

- A) Kentleşme yavaşlar.
- B) Tarım arazileri azalır.
- C) Doğal kaynaklar kirlenir.
- D) Sanayi belli bölgelerde toplanır.

18. Aşağıdakilerden hangisi, işletmeler faaliyetlerini sürdürürken çevrenin korunmasına yönelik alınması gerekli tedbirlerde bir eksiklik olduğunu göstermektedir?

- A) Mümkün olduğunca yenilenebilir kaynaklar kullanılmalı
- B) İşletme kurulduktan sonra çevre sorunları ile ilgilenmeli
- C) Zehirli ve kimyasal gazlar için fabrika bacalarına filtre takılmalı
- D) Eğitimler yoluyla çalışanlarında çevre sorumluluk bilinci geliştirilmeli

19. Standardizasyon, sağladığı yararlar açısından düşünüldüğünde, öncelikli olarak hedef kitlesi aşağıdakilerden hangisidir?

- A) Üreticiler
- B) Tüketiciler
- C) Satıcılar
- D) Komisyoncular

20. Aşağıdakilerden hangisi işletmelerin topluma karşı sorumluluklarından biri değildir?

- A) Ekonomik sorumluluğu
- B) Gönüllü sorumluluğu
- C) Hukuksal sorumluluğu
- D) Rekabet etme sorumluluğu

(479) MANTIK – 2

1. Mantık unsurlarını sembollerle ifade eden ve bu sembollerle işlemler yaparak geçerli çıkarımlara ulaşmayı amaçlayan disiplin aşağıdakilerden hangisidir?

- A) Aristoteles mantığı
- B) Modern mantık
- C) Klasik mantık
- D) Felsefe

2. $\sim[(p \Rightarrow q) \vee (\sim p \wedge r)]$ önermesinin ana eklemi aşağıdakilerden hangisidir?

- A) \sim
- B) \Rightarrow
- C) \vee
- D) \wedge

1. OTURUM

3. Aşağıdakilerden hangisi birli yüklemli bir önermedir?

- A) $2 > 1$
 B) Farabi filozoftur.
 C) Ali ve Ayşe kardeştir.
 D) Can ile Mert çalışkandır.

4. Basit önermeleri bileşik hâle getiren mantık değişmezleri aşağıdakilerden hangisiyle ifade edilir?

- A) Önerme eklemleri
 B) Sonuç önermesi
 C) Doğruluk değeri
 D) Öncül önerme

5. "Hasan yaramaz değildir." önermesinin önermeler mantığında sembolleştirilmiş biçimi aşağıdakilerden hangisidir?

- A) $p \vee q$ B) $p \wedge q$
 C) $p \Rightarrow q$ D) $\sim p$

6. İki değerli mantığa göre (p) önermesi doğru ise, ($\sim p$) önermesinin doğruluk değeri aşağıdakilerden hangisidir?

- A) Zorunlu B) Doğru
 C) Yanlış D) Belirsiz

7.

I. Önerme	II. Önerme	III. Önerme	IV. Önerme
D	D	Y	Y
D	Y	D	Y

Yukarıda doğruluk değerleri verilen numaralandırılmış önermelerden hangisi tutarsızdır?

- A) I numaralı önerme
 B) II numaralı önerme
 C) III numaralı önerme
 D) IV numaralı önerme

8. De Morgan Kurallarına göre, ($p \Rightarrow q$) önermesinin eş değeri aşağıdakilerden hangisidir?

- A) $\sim p \vee q$ B) $p \wedge q$
 C) $\sim p \wedge \sim q$ D) $\sim p \vee \sim q$

9. Aşağıdaki önermelerden hangisi geçerlidir?

A)	B)	C)	D)
I. önerme	II. önerme	III. önerme	IV. önerme
D	D	D	D
Y	D	D	Y
Y	D	D	D
D	D	Y	D

10. Niceleme mantığındaki tümel ve tikel niceleyicilerin sembolleri aşağıdakilerden hangisinde birlikte verilmiştir?

- A) \forall, \exists B) \forall, \Rightarrow
 C) \exists, \square D) \exists, \diamond

11. "Ahmet çalışkan ve zekidir." önermesinin niceleme mantığındaki sembolik ifadesi aşağıdakilerden hangisidir?

- A) Fa B) $\sim Fa$
 C) Ga D) $Fa \wedge Ga$

12. Aşağıdakilerden hangisi açık önermedir?

- A) 1 tek sayıdır.
 B) x filozoftur.
 C) Kemal çalışkandır.
 D) Ahmet öğretmendir.

13. " $\forall x$ (x hayvandır)." önermesi aşağıdaki evrenlerin hangisinde yanlışır?

- A) $E = \{\text{arı, kelebek, tavşan}\}$
 B) $E = \{\text{kuş, kedi, balık}\}$
 C) $E = \{\text{taş, demir, gümüş}\}$
 D) $E = \{\text{kelebek, köpek, kedi}\}$

14. Aşağıdakilerin hangisinde kiplik değişmezleri sembolleri ile birlikte ve doğru olarak verilmiştir?

- A) Zorunlu (\square) - mümkün (\diamond)
 B) Zorunlu (\square) - belirsiz (B)
 C) Mümkün (\square) - belirsiz (B)
 D) Zorunlu (\diamond) - mümkün (\square)

15. Aşağıdakilerden hangisi önermelerin "doğru" ya da "yanlış" dışında üçüncü bir değere sahip olabileceğini gösteren mantık sistemidir?

- A) Klasik mantık
 B) Kiplik mantığı
 C) Çok değerli mantık
 D) İki değerli mantık

16. "Kaf dağı vardır." önermesinin varlık mantığındaki sembolleştirilmiş hâli aşağıdakilerden hangisidir?

- A) Fa B) Ea
 C) $p \vee q$ D) $Fa \Rightarrow Fb$

17. I. Bilgisayar kullanımı
 II. Matematikteki ispat işlemleri
 III. Eleştirel düşünme ve akılcı tartışma

Yukarıdakilerden hangileri mantığın uygulandığı alanlar arasında yer alır?

- A) I ve II. B) I ve III.
 C) II ve III. D) I, II ve III.

18. Aşağıdakilerden hangisi aklın özelden genele doğru izlediği yol biçiminde tanımlanır?

- A) Varsayımlı dedüktif yöntem
 B) Tümden gelim
 C) Tüme varım
 D) Analoji

19. İki ya da daha çok kişinin belli bir konuda farklı görüşleri sürerek birbirlerini eleştirmeleri aşağıdaki hangi kavramla ifade edilir?

- A) Mantık B) Teorem
 C) Aksiyom D) Tartışma

20. Bilim felsefesinin konusu aşağıdakilerden hangisidir?

- A) Mantık B) Bilim
 C) Bilgi D) Doğa

(484) SAĞLIK BİLGİSİ – 2

1. Aşağıdakilerden hangisi, güçlü ve sağlıklı ailelerin en önemli özelliklerindedir?

- A) İmalarda bulunmaları
 B) Birbirlerine kötü söz sarf etmeleri
 C) Karşısındaki kişiliğine saldırmaları
 D) Birbirleriyle doğrudan iletişime geçmeleri

2. Aşağıdakilerden hangisi, evlat edinebilmek için ailelerde aranan koşullardan biri değildir?

- A) Evlat edinenin en az ilkokul mezunu olması
 B) Evlat edinecek kişinin, yüz kızartıcı bir suçtan ceza almamış olması
 C) Evlat edinilecek çocuk ile evlat edinecek kişi arasında en fazla 10 yaş farkın olması
 D) Sosyal ilişkiler açısından toplumun norm ve değerlerine aykırı düşmeyecek özellikler taşıması

1. OTURUM

3. Artık çocuk istemeyen çiftlerde, kadınların yumurtalık kanallarının ameliyatla bağlanmasına ne ad verilir?

- A) Dyafram
- B) Vazektomi
- C) Rahim içi araç
- D) Tüp ligasyonu

4. Anne baba tarafından istenmeyen gebeliklerin, hekimler tarafından sonlandırılması yasal olarak gebeliğin kaçınıcı haftasına kadar mümkündür?

- A) 10. B) 15. C) 20. D) 25.

5. I. Kan hacminin artması
II. Artan demir gereksinmesinin karşılanması
III. Besinlerle alınan demirin vücutta kullanımının düşük olması

Yukarıdakilerden hangileri, gebelik döneminde görülen kansızlığın başlıca nedenlerindendir?

- A) I ve II. B) I ve III.
- C) II ve III. D) I, II ve III.

6. Aşağıdaki vitaminlerden hangisinin kaynağı güneş ışınlarıdır?

- A) A vitamini B) C vitamini
- C) D vitamini D) E vitamini

7. I. Kan basıncını yükseltir.
II. İri bebek doğmasına neden olur.
Gebelik süresince görülen diyabetle ilgili verilenler için ne söylenebilir?

- A) I. doğru, II. yanlış
- B) I. yanlış, II. doğru
- C) Her ikisi de doğru
- D) Her ikisi de yanlış

8. Aşağıdakilerden hangisi, doğum sonrasındaki annenin beslenmesinde uygun olmayan davranışlardır?

- A) Acılı, ekşili, baharatlı ve gaz yapıcı gıdaların sütte bebeğe geçeceğini düşünerek dikkatli olması
- B) Unlu, yağlı ve kızartma türü besinleri tercih etmesi
- C) Sigara, alkol gibi maddeleri kullanmaması
- D) Çay ve kahve tüketmekten kaçınması

9. Aşağıdakilerden hangisi, iki yıldan kısa aralıklarla ve çok sayıda yapılan doğumların anne, çocuk ve toplum sağlığı üzerindeki etkilerindendir?

- A) Annenin ruh sağlığında bozulmaya yol açması
- B) Annede beslenme bozukluklarını önlemesi
- C) Toplumda, hasta anne ve çocuk sayısını azaltması
- D) İstenmeyen gebelikleri sonlandırmaya yönelik olarak düşük ve kürtaj sayısını azaltması

10. Aşılar ile ilgili olarak verilenlerden hangisi yanlıştır?

- A) Aşılama sonrasında vücut bağışıklık kazanır.
- B) Bağışıklık kazanmanın tek yolu, aşılamdır.
- C) Hastalığın ölü ya da zayıflatılmış mikrobuyla veya bunun toksiniyle hazırlanır.
- D) Aşısı yapılan hastalık etkeniyle karşılaşta onu tanıyarak hastalık yapmasını engeller.

11. Aşağıdakilerden hangisi, kanserin oluşmasında rol oynayan nedenlerdendir?

- A) Radyasyondan korunmak
- B) Yeterli ve dengeli beslenmek
- C) Sigara ve alkol kullanımından kaçınmak
- D) Bazı kimyasal maddelerin (katran, benzin, asbest vb.) bulunduğu ortamda çalışmak

12. Kalp ve damar hastalıklarının en önemlilerinden birisi de hipertansiyondur. Bu hastalık, kişide felç olasılığını artırır, böbrek hastalıklarına ve daha az olmak kaydıyla kalp krizlerine yol açabilir.

Buna göre verilenlerden hangisi, hipertansiyondan korunmak için yapılması gerekenlerdendir?

- A) İdeal kilonun korunması
- B) Tuz tüketiminin artırılması
- C) Stresli ortamlarda bulunulması
- D) Egzersiz yapmaktan kaçınılması

13. •Bebeklerde 3-4 aylıktan başlayan ve sürekli kan nakli gerektiren çok ciddi bir kan hastalığıdır.
•Bu tür hastalar, hayatları boyunca düzenli tedavi görmek zorundadırlar. Uygulanan tedaviler zor ve pahalıdır.
•Karaciğer ve dalağın büyümesi sonucu karın şişliği, sık sık ateşlenme, kemiklerde ve yüz şeklinde değişiklik gibi belirtiler görülür.

Yukarıda bazı özellikleri verilen kan hastalığı hangisidir?

- A) Verem
- B) Hemofili
- C) Bel soğukluğu
- D) Talasemi majör

14. Akdeniz ateşi ile ilgili olarak verilenlerden hangisi doğrudur?

- A) Hastalarda burun kökü çöker, elmacık kemikleri daha belirgin hale gelir ve yüz şekli değişir.
- B) Çeşitli organlarda ve eklemlerde tekrarlayan iltihabi ataklara neden olur.
- C) Kalıtsal hastalıklar grubuna girmez.
- D) Tedavisi mümkün değildir.

15. Bulaşıcı hastalıklardan korunmak için, kaynağa yönelik alınan önlemlerden "filiasyon arama" ne anlama gelir?

- A) Ekonomik düzeyi düzeltmek
- B) Dengeli ve yeterli beslenmek
- C) Hastalığın ilk çıkış noktasını bulmak
- D) Temiz içme ve kullanma suyu temin etmek

16. Bulaşıcı hastalık etkeni ile karşılaştığı düşünülen insan veya hayvanın, kuluçka dönemi boyunca başkaları ile temasını önlemeye - - - denir.

Verilen ifadede boş bırakılan yere aşağıdakilerden hangisi yazılmaktadır?

- A) karantina
- B) pastörizasyon
- C) kemoproflaksi
- D) immünizasyon

1. OTURUM

17. I. Aşı yaptırmaktan kaçınılması
II. Kişisel hijyene gereken önemin verilmesi
III. Kapalı alanlarda enfeksiyon bulgusu olan kişilerle temas edilmemesi

Yukarıdakilerden hangileri, temas yoluyla bulaşan hastalıklardan korunmak için yapılması gereken uygulamalardandır?

- A) I ve II. B) I ve III.
C) II ve III. D) I, II ve III.

18. İnsan ve hayvanların ortak hastalıklarına zoonoz adı verilmektedir.

Buna göre aşağıdakilerden hangisi, zoonozlarla mücadelede yapılması gereken çalışmalardan biri değildir?

- A) Başıboş hayvanların koruma altına alınması
B) Vektörler ve kemiricilerle temasın sağlanması
C) Hastalığa maruz kalan insanların tedavi edilmesi
D) Hayvanlara düzenli olarak kuduz ve şarbon aşısının uygulanması

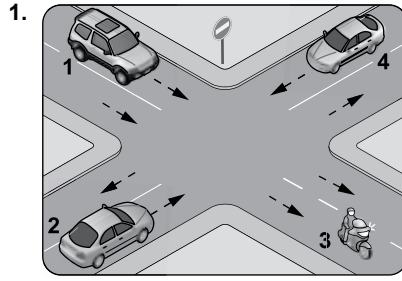
19. Kan ve cinsel ilişki yoluyla bulaşan hastalıklardan "Hepatit B" ile ilgili olarak verilenlerden hangisi doğrudur?

- A) Hastalığın etkeni bakterilerdir.
B) Siroz ve karaciğer kanserini önler.
C) Hastalara protein ve karbonhidrattan fakir, yağlı diyet uygulanmalıdır.
D) Hastalar bazen kendi hastalık belirtilerini göstermezler, hastalanmazlar ve taşıyıcı olarak yaşarlar.

20. Aşağıdakilerden hangisi, ilaç kullanımında yapılması gereken davranışlardandır?

- A) İlaçların, kişiye ve hastalığına ilişkin özel doz ve kullanım sürelerine göre alınması
B) Çocukların ulaşabileceği, nemli ve sıcak bir ortamda saklanması
C) Rengi bozulmuş ve tortulaşmış ilaçların tüketilmesi
D) Hekime danışılmadan ilaçların kesilmesi

(491) TRAF. VE İLK YARD. – 1



Şekle göre kaç numaralı taşıtlar tek yönlü kara yolu üzerinde bulunmaktadır?

- A) 1 ve 3 B) 1 ve 4
C) 2 ve 3 D) 2 ve 4

2. Sürücülerin kara yollarında aşağıdakilerden hangisini yapması doğrudur?

- A) İniş eğimli yolda vitesi boşa alması
B) Otoyola girişte hemen sol şeride geçmesi
C) Bölünmüş yollarda karşı yöndeki trafik için ayrılan yol bölümüne girmesi
D) Daralan yol kesimlerinde aksine bir işaret yoksa çıkan yüklü araçlara yol vermesi

3. Aşağıdakilerden hangisi, insan unsurundan kaynaklanan trafik kazası nedenlerindedir?

- A) Aracın arıza yapması
B) Uyarı işaretlerinin yetersiz olması
C) Sorumsuzca hareketlerde bulunması
D) Aracın kullanıldığı yolun bozuk olması

4. I. Sürekli sol şeridi kullanmak
II. Hoşgörülü davranışlarda bulunmak
III. Trafik yoğunluğunda emniyet şeridini kullanmak

Yukarıdakilerden hangileri, trafik düzen ve güvenliği için tehdit oluşturur?

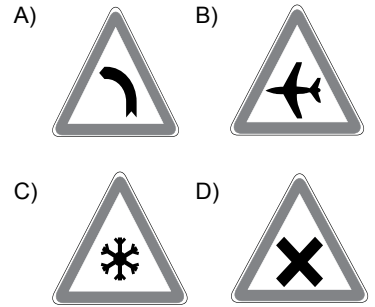
- A) I ve II. B) I ve III.
C) II ve III. D) I, II ve III.

5. Aşağıdakilerden hangisi, çevre kirliliğini önlemeye yönelik çalışmalardan biri değildir?

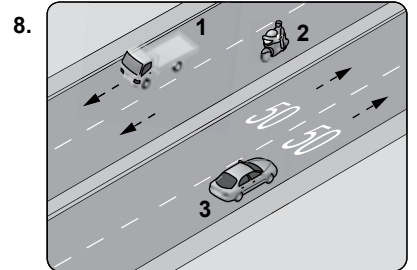
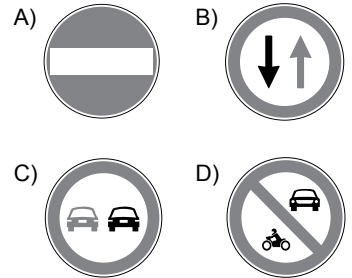
- A) Toplu taşıma araçlarının kullanılması
B) Egzoz emisyon ölçümünün yaptırılması
C) Araç bakımlarının zamanında yaptırılması
D) Araca orijinal olmayan yedek parçaların takılması

6. "Trafik kazalarında insan, araç, yol ve iklim koşulları etkili olmaktadır."

Buna göre aşağıdaki trafik işaretlerinden hangisi, iklim koşullarından kaynaklanan bir tehlike olabileceğini bildirir?



7. Aşağıdaki trafik işaretlerinden hangisi, girişi olmayan yol anlamındadır?



Şekildeki karayolunda, yatay olarak verilen trafik işaretlemesi aşağıdakilerden hangisini bildirir?

- A) Kavşağa 50 metre kaldığını
B) Azami hızın 50 km/saat olduğunu
C) 50 metre sonra ışıklı trafik işaretinin olduğunu
D) Öndeki aracın 50 metre mesafe ile takip edilmesi gerektiğini

1. OTURUM

9. Sürücünün aşağıdaki davranışlarından hangisini yapması sürüş güvenliğini tehlikeye düşürür?

- A) Mola vermeden uzun süreli araç kullanması
- B) Yolculuk öncesi araç bakımlarını yaptırmaması
- C) Sürüş sırasında emniyet kemerini bağlamaması
- D) Yol şartlarına göre kontrol edilebilecek hızda araç kullanması

10. I. Yaya alt ve üst geçitlerini
II. Trafik ışıklarının bulunduğu yerleri
III. Trafik akışının yoğun olduğu yerleri

Yayalar karşıdan karşıya geçerken yukarıda belirtilen yerlerden hangisini kullanırsa kaza riskini en aza indirmiş olur?

- A) Yalnız I
- B) I ve II.
- C) II ve III.
- D) I, II ve III.

11. I. Otomobil
II. Kamyonet
III. Her çeşit arazi taşıtı
IV. Ayakta yolcu taşıyan otobüsler

Yukarıdaki taşıtlardan hangilerinin bütün koltuklarında emniyet kemeri bulundurulması ve kullanılması zorunludur?

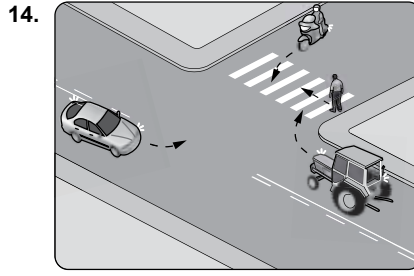
- A) I ve II.
- B) III ve IV.
- C) I, II ve III.
- D) I, II, III ve IV.

12. Aşağıdakilerden hangisi, öndeki araç geçilirken uyulması gereken kurallardan biri değildir?

- A) İlerisinin görüşe açık ve boş olması
- B) Sol dönüş lambası ile işaret verilmesi
- C) Öndeki aracın sağından veya banket kullanılarak geçilmesi
- D) Başka bir sürücünün kendisini geçmeye başlamamış olması

13. Sürücülerin kara yollarında aşağıdakilerden hangisini yapması yasaktır?

- A) Hızlarını, kullandıkları aracın yük ve teknik şartlarına uydurmaları
- B) Kavşaklara ve yaya geçitlerine yaklaşırken hızlarını azaltmaları
- C) Öndeki araçla aralarında güvenli bir mesafe bırakmaları
- D) Gereksiz ve ani yavaşlamalar yapmaları



14. Şekildeki gibi bir karşılaşmada ilk geçiş hakkını hangisi kullanmalıdır?

- A) Yaya
- B) Traktör
- C) Otomobil
- D) Motosiklet

15. Aşağıdakilerden hangisi, sürücünün durmasını gerektiren durumlardan biri değildir?

- A) Kırmızı ışığın yanması
- B) Yolun trafiğe kapanması
- C) Trafik görevlisinin dur işareti vermesi
- D) Öndeki araç sürücüsünün hızını azaltması

16. Yaya yolu bulunmayan yollarda geceleyin yürümek zorunda kalan yayaların, aşağıdakilerden hangisini yapması durumunda trafik açısından tehlikeli bir durum oluşur?

- A) Işık taşınması
- B) Koyu renk elbise giymesi
- C) Üzerinde yansıtıcı aksesuar bulundurulması
- D) İki yönlü yollarda gidişlerine göre taşıt yolunun sol kenarından yürürmesi

17. Taşıt sürücüleri; yaya, okul ve demir yolu geçitlerine yaklaşırken aşağıdakilerden hangisini yapmalıdır?

- A) Önde yavaş giden araç varsa geçmeli
- B) Bu geçitlere yaklaştığında şerit değiştirmeli
- C) Okul geçidi görevlisinin işaret ve talimatlarına uymalı
- D) Demir yolu geçidine gelmeden bariyer inmeye başlamışsa geçmek için acele etmeli

18. Aşağıdakilerden hangisi, trafik kazalarıyla ilgili olarak kazaya karışan kişilerin yükümlülüklerinden biri değildir?

- A) Maddi hasarlı kazalarda kaza tespit tutanağı düzenlemek
- B) Sorumluluğun belirlenmesine yarayacak izleri değiştirmek
- C) Kaza yerinde usulüne uygun ilk yardım tedbirlerini almak
- D) Yetkililerin istemesi halinde yaralıları en yakın sağlık kuruluşuna götürmek

19. Araçların ilk tescilinin yapılması için satın alma tarihinden itibaren kaç ay içinde trafik tescil kuruluşuna başvurulması zorunludur?

- A) 3
- B) 4
- C) 5
- D) 6

20. Kara Yolları Trafik Kanunu'na göre aşağıdakilerden hangisi, sürücü adaylarında aranan şartlardandır?

- A) Boy
- B) Askerlik
- C) Öğrenim
- D) Göz rengi

(502) İNGİLİZCE – 8

1 - 20. sorularda boş bırakılan yere uygun gelen kelime ya da ifadeyi işaretleyiniz.

1. In June, Ethan will have - - - - from the university.

- A) graduating
- B) graduated
- C) graduates
- D) graduate

2. He - - - - his suitcase by tomorrow.

- A) pack
- B) packing
- C) have packed
- D) will have packed

3. Next year in September, I will have - - - - to my new house.

- A) moved
- B) played
- C) eaten
- D) seen

4. This time next Saturday, I will be - - - - to New York.

- A) drinking
- B) playing
- C) driving
- D) seeing

1. OTURUM

5. Adam ---- as a policeman if he ---- taller.

- A) can work / were
- B) worked / was
- C) working / was
- D) could work / were

6. If you ---- ice, it ----.

- A) heats / melt
- B) heat / melts
- C) heated / melted
- D) heating / melting

7. I will ---- you a new computer if you pass the class.

- A) finish
- B) drink
- C) buy
- D) go

8. If you ---- water, it evaporates.

- A) start
- B) boil
- C) go
- D) do

9. You won't get fat if you ---- exercise.

- A) do
- B) visit
- C) sleep
- D) watch

10. He couldn't pass the class ---- he didn't study.

- A) in order to
- B) because
- C) wherever
- D) as soon as

11. ---- I was in Ankara, I used to join summer camps.

- A) So
- B) Yet
- C) When
- D) Already

12. ---- we don't have money, we can't buy that car.

- A) So
- B) Until
- C) After
- D) Since

13. ---- I got home, everybody was sleeping.

- A) When
- B) Since
- C) During
- D) Yet

14. ---- that Peter lives alone, he has to cook his own food.

- A) Since
- B) Because
- C) In order to
- D) Due to the fact

15. I saw an old friend ---- he was buying some vegetables.

- A) during
- B) while
- C) already
- D) as soon as

16. English is ---- all around the world.

- A) spoken
- B) speaks
- C) spoke
- D) speak

17. The meal was ---- by my brother.

- A) drove
- B) played
- C) cooked
- D) understood

18. The house is being ---- now.

- A) written
- B) painted
- C) spoken
- D) slept

19. The bank was ---- yesterday.

- A) robbed
- B) broken
- C) taken
- D) gone

20. The car is being ---- by my father now.

- A) played
- B) worked
- C) cooked
- D) repaired

3. A: Entschuldigung, wie kann ich ---- Bahnhof gehen?

B: Gehen Sie geradeaus, nach der zweiten Kreuzung links. Der Bahnhof ist auf der rechten Seite.

- A) von
- B) zum
- C) ins
- D) auf

4. Einen Döner ----.

- A) gehen
- B) trinken
- C) schlafen
- D) essen


5. Kannst du uns ein Lied ----.

- A) essen
- B) singen
- C) laufen
- D) anziehen

6. ---- ich fleißig gelernt hätte, ---- ich die Prüfung bestehen.

- A) Wenn / könnte
- B) Habe / werde
- C) Will / kann
- D) Würde / hätte

7.



Wie spät ist es?
Es ist ----.

- A) zwanzig vor vierzehn
- B) zwanzig nach vier
- C) zwanzig nach zwei
- D) Viertel nach drei

8. A: Hallo Ahmet, ---- ?
B: Einen Limonade.

- A) Wann machst du
- B) Wie geht es dir
- C) Woher kommst du
- D) Was trinkst du

9. Sie ---- nach der Schule in die Bibliothek gehen.

- A) wird
- B) sind
- C) hat
- D) geht

10. Die Frau, --- aus dem Restaurant kommt, ist unsere Nachbarin.

- A) der
- B) die
- C) das
- D) dem

(502) ALMANCA – 8

1-16. sorularda boş bırakılan yere uygun gelen ek, kelime ya da ifadeyi işaretleyiniz.

1. Du ---- im Winter kein Eis essen.

- A) sollen
- B) darfst
- C) kann
- D) möchten

2. Ali fragt, ---- sie am Montag eine Prüfung schreiben.

- A) aber
- B) dass
- C) ob
- D) denn

1. OTURUM

17-20. sorularda verilen resme göre cümlede boş bırakılan kısmı tamamlayan sözcük ya da ifadenin bulunduğu seçeneği işaretleyiniz.

17.



Le dimanche matin, ils font - - - .

- A) du judo B) de la boxe
C) du bateau D) de l'escalade

18.



Pierre ne peut pas écrire parce qu'il a - - - .

- A) mal au dos B) mal aux dents
C) le bras cassé D) la jambe cassée

19.



Quand il est fatigué, il - - - tôt.

- A) se peigne B) se promène
C) se couche D) s'habille

20.



Il a mal - - - .

- A) au dos B) aux dents
C) aux jambes D) à la tête

(511) FIKİH – 1

1. Fıkıh ilmi ile uğraşan, Kur'an ve sünnet gibi delillerden dini hükümler ortaya koyabilme bilgi ve becerisine sahip olan kimseye ne ad verilir?

- A) Mütefekkir B) Müfessir
C) Muhaddis D) Müçtehit

2. Fıkıhın aşağıdaki tanımlarından hangisi Ebu Hanife'ye aittir?

- A) Kişinin lehinde ve aleyhinde olanı bilmesidir.
B) Din ve Kur'an konularında bilgi sahibi olmaktır.
C) Bir şeyin tamamına vakıf olmak, deliliyle bilmektir.
D) Müçtehitlerin tafsili şer'î delillerden istinbat ettiği hükümlerdir.

3. Bir mazerete binaen, özel ve geçici olmak üzere konulmuş hükümlere ne denir?

- A) Vaz'i hükümler
B) Azimet
C) Teklifi hükümler
D) Ruhsat

4. Aşağıdakilerden hangisi içtihadın aşamalarından biri değildir?

- A) Zorlaştırıcı olmak
B) Sorunu tespit etmek
C) Kaynaklara başvurmak
D) Hüküm vermek

5. Miras ve vasiyet ile ilgili hükümler hangi başlık altında toplanmıştır?

- A) Münakehat B) Muamelat
C) Ukubat D) Feraiz

6. Fıkıh usulü alanında yazılmış ilk eser "er-Risale" kim tarafından yazılmıştır?

- A) Ebu Hanife B) İmam Şafii
C) Serahsi D) Gazali

7. Aşağıdakilerden hangisi fıkıhın temel ilkelerinden değildir?

- A) Kamu yararının gözetilmesi
B) Mükellefiyette kolaylık
C) Haramlarda genişlik
D) Hükümlerde tedricilik

8. Aşağıdakilerin hangisi fıkıhın ilk örnekleri olarak kabul edilmektedir?

- A) Mezhepler dönemi
B) Hz. Peygamber dönemi
C) Tabiin dönemi
D) Sahabe dönemi

9. Aşağıdakilerin hangisinde sahabe döneminde ortaya çıkan fıkıh ekollerini bir arada verilmıştır?

- A) Eser-Şura B) Rey- Şura
C) Rey- Eser D) Kufe-Irak

10. Fıkıh görüşlerini "el-Muvatta" isimli eserinde toplayan mezhep imamı aşağıdakilerden hangisidir?

- A) Malik b. Enes
B) İdris eş-Şafii
C) Ahmet b. Hanbel
D) Ebu Hanife

11. • Şia'nın en büyük koludur.
• İmamiyye ve İsnâaşeriyye olarak da anılmaktadır.
• Fıkıh görüş bakımından Hanefiliğe yakındır.

Hakkında bilgi verilen mezhep aşağıdakilerden hangisidir?

- A) Hanbelilik B) Malikilik
C) Şafilik D) Caferilik

12. Osmanlının son dönemlerinde fıkıh kaynaklarından yararlanılarak hazırlanan kanun kitabı hangisidir?

- A) Mecelle B) El- Umm
C) Risale D) Muvatta

13. Aşağıdakilerden hangisi müktesep arzular arasında yer almaz?

- A) Sarhoşluk B) Cahillik
C) Bunaklık D) Zorlama

14. Aşağıdakilerden hangisi farz-ı ki-fayedir?

- A) Vitir namazı
B) Cenaze namazı
C) Sabah namazı
D) Bayram namazı

15. İslam dininde Şari' ile kim kastedilir?

- A) Allah B) Alimler
C) Sahabeler D) Evliyalar

1. OTURUM

16. Hanefiler, kesin olmayan bir delille emredilen fiilleri, kesin delillerle emredilenlerden ayırmak amacı ile aşağıdaki kavramlardan hangisini kullanmışlardır?

- A) Sünnet B) Mekruh
C) Farz D) Vacip

17. Aşağıdakilerden hangisi İslam hukukunda "Edille-i Erbea" (Dört temel delil) olarak adlandırılan kaynaklardan biri değildir?

- A) Kitap B) Sünnet
C) Örf-Adet D) İcma

18. Aşağıdaki ayetlerden hangisi sünnetin gerek hüküm koymada gerekse uyulması konusunda bağlayıcı bir kaynak olduğuna delildir?

- A) "Allah'ın haram kıldığı cana kıymayın."
(Enam suresi, 151. ayet)
B) "Allah'a ve Resul'e itaat edin ve (kötülüklerden) sakının."
(Maide suresi, 92. ayet)
C) "...O kavme ne oluyor ki (kendilerine söylenen) hiçbir sözünü anlamaya (fıkhetmeye) yanaşmıyorlar?"
(Nisa suresi, 78. ayet)
D) "...Artık kim inkâr ederse inkârı kendi aleyhinedir. İnkârcıların inkârı, Rableri katında ancak uğrayacakları gazabı artırır..."
(Fâtır suresi, 39. ayet)

19. Terim olarak "Hz. Peygamber'in vefatından sonra herhangi bir dönemde müçtehid âlimlerin şer'i bir hüküm hakkında görüş birliğine varmalarıdır." şeklinde tarif edilen kavram hangisidir?

- A) Kıyas B) İcma
C) Sünnet D) Sedd-i Zerai

20. Terim anlamı "Fakihin, dini anlamak ve onu günlük hayata uygulayabilmek için ortaya koyduğu her türlü çaba" olarak tanımlanan kavram aşağıdakilerden hangisidir?

- A) İctihat B) Taassub
C) Mezhep D) Azimet

(532) HZ. MUHAMMED'İN HAY. – 2

1. "Ey iman edenler! Allah için hakkı titizlikle ayakta tutan, adalet ile şahitlik eden kimseler olun. Bir topluma olan kininiz sizi adaletsizliğe itmesin. Adil olun..."
(Mâide suresi, 8. ayet)

Verilen ayet aşağıdakilerden hangisi ile daha çok ilgilidir?

- A) İnsan olmada eşitlik
B) Hukuk karşısında eşitlik
C) Kullukta eşitlik
D) Yararıta eşitlik

2. "İnsanlar, doğuştan eşittirler: kullukta, fanilikte eşitlik. Sonra iman sayesinde yeni bir eşitlik kazanırlar, kardeş olurlar." (Cemil Meriç)

Bu söze göre aşağıdakilerden hangisi söylenemez?

- A) Her insan ölümlüdür.
B) Herkes Allah'ın kuludur.
C) İnananlar kardeşler.
D) Tüm insanlar Allah'a inanır.

3. "Ey insanlar! Dikkat edin, sizin Rabbiniz birdir, babanız da birdir, Âdem'dir. Dikkat edin, hiçbir Arap'ın, hiçbir yabancı üzerine, hiçbir yabancının Arap üzerine, siyahın kırmızıya renkli üzerine, kırmızının siyah üzerine üstünlüğü yoktur. Fazilet ve üstünlük ancak takva iledir."

Hz. Muhammed (sav.)'in bu sözünden aşağıdakilerden hangisi çıkarılamaz?

- A) Peygamberler kulluk bakımından en üstün olanlardır.
B) İrk ve soy sebebi ile üstünlük yoktur.
C) Üstünlük Allah'a yakın olmakla olur.
D) Tüm insanlar aynı atadan gelir.

4. Aşağıdaki ayetlerden hangisi konusu bakımından diğerlerinden farklıdır?

- A) "Onlar, kendi canları çekmesine rağmen yemeği yoksula, yetime ve esire yedirirler."
(İnsan suresi, 8. ayet)
B) "Dini yalanlayanları gördün mü? İşte o, öksüzü iter, kakar. Yoksulu doyurmaya önyak olmaz."
(Maun suresi, 1-3. ayetler)
C) "Mü'min olarak, erkek veya kadın, her kim salih ameller işlerse, işte onlar cennete girerler ve zerre kadar haksızlığa uğratılmazlar."
(Nisa suresi, 124. ayet)
D) "Öyleyse sakın yetimi ezme! İsteyeni de azarlama!"
(Duhâ suresi, 9-10. ayetler)

5. Peygamberimiz görme engelli olan sahabi Abdullah b. Ümmi Mektum'a daima büyük değer vermiş, onu Kur'an öğretmesi için Medine'ye göndermiştir. Ona zaman zaman müezzinlik görevi vermiş, savaşa giderken yönetici olarak kendi yerine bırakmıştır.

Hz. Muhammed (sav.)'in bu davranışı aşağıdakilerden hangisine örnek teşkil etmez?

- A) Engellilere fırsat verildiğine
B) Engellilerin önemsendiğine
C) Engellilerin toplumdaki soyutlanmadığına
D) Engellilerin ibadetlerden muaf tutulduğuna

6. Bir işe başlamadan önce, bilgisine, tecrübesine ve ahlakına güvenilen kimselerle fikir alışverişinde bulunmaya, onlara danışmaya - - - - denir.

Cümlede boş bırakılan yere gelmesi gereken kavram aşağıdakilerden hangisidir?

- A) istiâre B) istişare
C) sohbet D) dayanışma

7. Aşağıdakilerden hangisi danışmanın yararlarından değildir?

- A) Kişi bilgi ve tecrübesi ile kendini büyük görür.
B) Danışma daha az hata yapılmasına yardımcı olur.
C) Başkalarının tecrübelerinden yararlanma imkanı sağlar.
D) Kişinin bilgi ve yeteneklerinin farkında olmasını sağlar.

8. Aşağıdakilerden hangisi Hz. Muhammed (sav.)'in evlenmeye gücü yetmeyenlerin aile kurmasına yardımcı olduğu uygulamalardan biridir?

- A) Muhacir ensar kardeşliği yapması
B) Ashab-ı suffa'ya mescitte yer vermesi
C) Evlenirken kadına mehir verilmesini teşvik etmesi
D) Fedek arazisi gelirinden bir bölümünü bekarlara ayırması

1. OTURUM

9. "Hz. Peygamber'in meclisinde herkes eşit vaziyette idi. Ancak bir kimse diğerine karşı sorumluluk bilinci ile üstünlük kazanabilirdi. Herkes alçak gönüllü idi. Orada, yaşça büyük olanlara saygı gösterirler, küçüklere de merhamet ederlerdi. Toplantıdaki ihtiyaç sahiplerine öncelik tanırılar, özellikle kimsesiz olanlara ayrı bir ilgi gösterirlerdi." (Hz. Ali)

Bu parçadan aşağıdakilerden hangisine ulaşılamaz?

- A) Fakir ve yoksullar gözetilmiştir.
B) Peygamber meclisinde sevgi ve saygı vardır.
C) Toplumun ileri gelenlerine ayrıcalıklı davranılmıştır.
D) Sorumluluğunun bilincinde olanlar üstünlük kazanmıştır.

10. "Çekememezlik etmeyin, haksız rekabette bulunmayın, birbirinize darılmayın, sırt çevirmeyin, birbirinizin akitlerini bozmayın ve Allah'ın kulu kardeşler olun. Müslüman müslümanın kardeşidir; ona haksızlık etmez, yüzüstü bırakmaz, onu küçümsemez..."

Verilen hadiste aşağıdakilerden hangisine değinilmemiştir?

- A) Haset
B) Cimrilik
C) Kardeşlik
D) Alçakgönüllülük

11. **Aşağıdakilerden hangisi istişare edilecek kimsede aranan bir özelliktir?**

- A) Okur-yazar olması
B) Erkek olması
C) Güvenilir olması
D) Yaşça büyük olması

12. **Hz. Muhammed (sav.) aşağıdaki olayların hangisinde istişare etmemiştir?**

- A) Medine'yi savunmak için şehrin etrafına hendek kazılması
B) Bedir Savaşı'nda ele geçirilen esirlerin durumu
C) Uhud Savaşı'nın nasıl ve nerede yapılacağı
D) Tebliğin açıktan yapılmaya başlanması

13. Hz. Muhammed (sav.) ev işlerinde aile bireylerinin görüşlerine değer verir, onların da fikirlerini alırdı.

Bu durum Hz. Peygamber'in hangi yönünü gösterir?

- A) İstişareye önem verdiğini
B) İşlerini kendisinin yaptığını
C) Liyakate önem verdiğini
D) İkrâm etmeyi önemseydiğini

14. **Aşağıdakilerden hangisi peygamber efendimizin eş seçiminde öne çıkardığı özelliktir?**

- A) Soy
B) Güzel ahlak
C) Güzellik
D) Zenginlik

15. "...Yetimlerin ihtiyacına koşan, Allah yolunda savaşa giden askerlerle, gündüz oruç tutup, geceyi ibadetle geçiren gibidir."

Bu hadiste aşağıdakilerden hangisinin önemi vurgulanmaktadır?

- A) Allah için savaşmak
B) Yetime sahip çıkmak
C) Oruç tutmanın önemi
D) Gece ibadetinin değeri

16. **Medineli Müslümanlara "Ensar" adı verilmesi, onların hangi özelliklerinin bir sonucudur?**

- A) Muhacirlere yardımda bulunmaları
B) Hz. Peygamber'e bağlılıkları
C) Zulme engel olmaları
D) Medineli olmaları

17. **Aşağıda verilen bilgilerden hangisi yanlıştır?**

- A) Hz. Peygamber amcasının oğlu Hz. Ali'nin bakımını üstlenmiştir.
B) Fakir olan kimseler bakımını üstlendikleri yetimlerin mallarından meşru ölçüler içerisinde yiyebilirler.
C) Kişi, akrabası olan yetimlerin nafakasını karşıladığında hem sadaka hem de akrabayı gözetme sevabı alır.
D) Hz. Peygamber ilim ile uğraşan kimsenin evlenmekten uzak durması gerektiğini söylemiştir.

18. Ebu Zer ile Bilal-i Habeşi arasında bir tartışma yaşanmıştı. Ebu Zer Bilal'e "kara kadının oğlu" diyerek ithamda bulunmuştu. Peygamberimiz de Ebu Zer'e "Sende cahiliyye adetlerini görüyorum" diyerek uyardı. O da Bilal'den özür diledi.

Verilen metinden aşağıdakilerden hangisi çıkarılmaz?

- A) İslâm ırk, soy üstünlüğünü reddetmiştir.
B) Ebu Zer ve Bilal'i Habeşi ashabın fakirlerindendir.
C) Müslüman hatasını fark ettiğinde özür dilemelidir.
D) Küçümsemek Müslümana yakışır bir özellik değildir.

19. "Birbirinize alçak gönüllü davranın ki kimse birbirine üstünlük taslamasın."

Aşağıdakilerden hangisi bu hadis ile anlam bakımından aynı doğrultudadır?

- A) Bizi aldatan bizden değildir.
B) Komşusu açken tok yatan bizden değildir.
C) İnsanlar bir tarağın dişleri gibi eşittirler.
D) Zenginlerin davet edilip fakirlerin çağırılmadığı düğün yemeği ne fena bir yemekdir.

20. **Aşağıdakilerden hangisi insanların fikir alışverişini ifade eden kavramlardan biri değildir?**

- A) İstişare
B) Şûra
C) İstihare
D) Müşavere

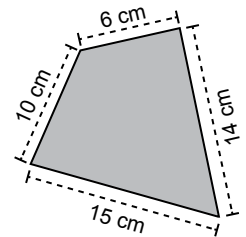
(609) MATEMATİK – 6

1. Gerçekte 60 km'lik uzunluk, ölçeği

$\frac{1}{400000}$ olan haritada kaç santimetredir?

- A) 15 B) 20 C) 24 D) 30

2.



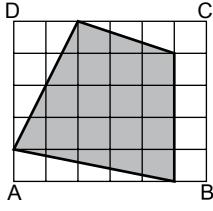
Şekilde ölçeği $\frac{1}{300}$ olan bir arsanın planı verilmiştir.

Buna göre bu arsanın gerçek çevresi kaç metredir?

- A) 180 B) 135 C) 90 D) 45

1. OTURUM

3.



Şekildeki otuz eş kareden oluşan ABCD dörtgeninin alanı 120 cm^2 dir.

Buna göre boyalı bölgenin alanı kaç santimetrekaredir?

A) 74 B) 72 C) 70 D) 68

4. Boyutları 3 cm, 4 cm ve 6 cm olan dikdörtgenler prizmasının yüzey alanı kaç santimetrekaredir?

A) 96 B) 100 C) 108 D) 116

5. Bir salonun, kenarlarının uzunlukları 8 m ve 5 m olan dikdörtgen şeklindeki tabanı, kenarlarının uzunlukları 10 cm ve 80 cm olan dikdörtgen şeklindeki parkelerle boşluk kalmayacak şekilde kaplanacaktır.

Buna göre bu iş için en az kaç parke gerekir?

A) 500 B) 580 C) 640 D) 800

6. Hacmi 288 cm^3 ve yüksekliği $12\sqrt{2} \text{ cm}$ olan dik silindirin tabanının alanı kaç santimetrekaredir?

A) $6\sqrt{2}$ B) $12\sqrt{2}$
C) $24\sqrt{2}$ D) $48\sqrt{2}$

7. Yüzey alanı $144\pi \text{ cm}^2$ olan içi dolu küre, merkezinden geçen bir düzlemlerle kesilerek iki parçaya ayrılıyor.

Buna göre oluşan parçaların yüzey alanlarının toplamı kaç π santimetrekaredir?

A) 288 B) 252 C) 216 D) 180

8. Yarıçapının uzunluğu 4 cm olan iki küreyi içine alabilen dik silindirin hacmi en az kaç π santimetreküptür?

A) 256 B) 364 C) 488 D) 512

9. Tabanının yarıçapının uzunluğu 5 cm ve yüksekliği 12 cm olan silindir şeklindeki kabın dörtte biri su ile doludur.

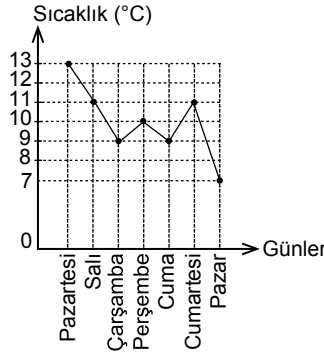
Buna göre kaptaki suyun hacmi kaç santimetreküptür? (π yerine 3 alınız.)

A) 400 B) 375 C) 300 D) 225

10. Taban ayrıtlarından birinin uzunluğu 4 cm ve yüksekliği 8 cm olan kare dik prizmanın yüzey alanı kaç santimetrekaredir?

A) 160 B) 180 C) 240 D) 280

11.



Yukarıdaki grafik bir şehrin bir haftalık sıcaklık değerlerinin değişimini göstermektedir.

Buna göre bu şehrin bir haftalık sıcaklık değerlerinin ortalaması kaç $^{\circ}\text{C}$ 'dir?

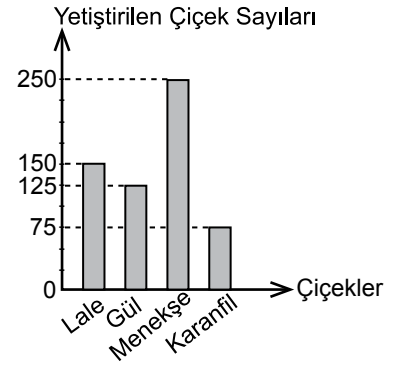
A) 8 B) 9 C) 10 D) 11

12. 15 günlük tatile çıkan Mehmet, tatilinin 4 gününü İstanbul'da, 5 gününü İzmir'de, 3 gününü Muğla'da ve kalan günlerini de Antalya'da geçirmiştir.

Bu veriler daire grafiği ile gösterildiğinde Mehmet'in tatilini Antalya'da geçirdiği gün sayısını veren daire diliminin merkez açısının ölçüsü kaç derece olur?

A) 48 B) 72 C) 96 D) 120

13.

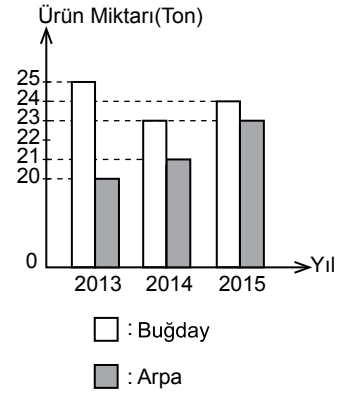


Yukarıdaki grafikte bir serada bir ayda yetiştirilen 4 çeşit çiçeğin sayıları verilmiştir.

Grafiğe göre bir ayda; en çok yetiştirilen çiçek sayısının, yetiştirilen tüm çiçeklerin toplam sayısına oranı kaçtır?

A) $\frac{5}{12}$ B) $\frac{1}{2}$ C) $\frac{2}{3}$ D) $\frac{3}{4}$

14.



Yukarıdaki grafikte yarısında buğday, diğer yarısında arpa yetiştirilen bir tarladan 2013, 2014 ve 2015 yıllarında elde edilen ürün miktarları verilmiştir.

Grafiğe göre 3 yılda elde edilen buğday miktarı arpa miktarından kaç ton fazladır?

A) 5 B) 6 C) 7 D) 8

15. İki zar birlikte atıldığında üst yüze gelen sayıların toplamının 5 olma olasılığı kaçtır?

A) $\frac{1}{18}$ B) $\frac{1}{9}$ C) $\frac{5}{36}$ D) $\frac{5}{12}$

16. Bir madeni para üç kez havaya atılıyor. Bu üç atışta da üst yüze yazı gelme olasılığı kaçtır?

A) $\frac{3}{4}$ B) $\frac{3}{8}$ C) $\frac{1}{4}$ D) $\frac{1}{8}$

1. OTURUM

17. A torbasında özdeş 3 beyaz, 5 siyah bilye, B torbasında özdeş 5 beyaz, 6 siyah bilye vardır.

A torbasından rastgele bir bilye alınıp B torbasına atıldıktan sonra B torbasından rastgele alınan bir bilyenin beyaz olma olasılığı kaçtır?

- A) $\frac{9}{48}$ B) $\frac{25}{96}$ C) $\frac{43}{96}$ D) $\frac{2}{3}$

18. Bir sınıfta bulunan 12 kız, 15 erkek öğrenci arasından rastgele seçilecek sınıf başkanının kız olması olasılığı kaçtır?

- A) $\frac{1}{3}$ B) $\frac{4}{9}$ C) $\frac{5}{9}$ D) $\frac{2}{3}$

19. $A = \{1, 2, 3, 4, 5\}$ kümesinden rastgele seçilen iki sayının çarpımının çift sayı olma olasılığı kaçtır?

- A) $\frac{7}{10}$ B) $\frac{3}{5}$ C) $\frac{1}{2}$ D) $\frac{2}{5}$

20. Aralarında Ali ve Veli'nin bulunduğu beş kişilik bir grup düz bir sıra halinde dizildiklerinde Ali ve Veli'nin yan yana olmaları olasılığı kaçtır?

- A) $\frac{4}{5}$ B) $\frac{3}{5}$ C) $\frac{2}{5}$ D) $\frac{1}{5}$

(611) KARŞ. DİN. TAR. – 1

1. "Sizden önce nice (milletler hakkında) ilahi kanunlar gelip geçmiştir. Onun için yeryüzünde gezin dolaşın da (Allah'ın ayetlerini) yalan sayanların akıbeti ne olmuş, görün."

(Âl-i İmrân suresi, 137. ayet)

Bu ayet aşağıdaki İslam bilimlerinden hangisinin öğrenilmesine sevk etmektedir?

- A) Din Felsefesi B) Dinler Tarihi
C) İslam Tarihi D) Siyer

2. "İslam atmosferinde yetişip cahiliye adetlerini tanımayan kimse yavaş yavaş İslam'la çelişkiye düşer..."
(Hz. Ömer)

Bu sözde anlatılmak istenen aşağıdakilerden hangisidir?

- A) İslam diğer dinlerin hükümlerini kaldırmıştır.
B) Cahiliye dönemi insanları çok günahkârdırlar.
C) Batıl inanç ve hurafeler toplumu geriye götürür.
D) İslam'ı iyi anlamak için farklı dinleri bilmek önemlidir.

3. **Dinin kaynağı ile ilgili aşağıdaki görüşlerden hangisi yanlıştır?**

- A) İslam dini, vahiy temellidir.
B) Edward Tylor'a göre dinin başlangıcı animizmdir.
C) Monoteistler evrim teorisini savunanların yanında yer almışlardır.
D) Vahye dayalı bazı dinlerin bozulmasıyla muharref dinler oluşmuştur.

4. **Aşağıdakilerden hangisi din ve mitoloji arasındaki benzerliklerden biridir?**

- A) Kutsallık atfedilmiş olması
B) Birden çok tanrının olması
C) Hukuki yönlerinin olması
D) Tanrının mücerret olması

5. **Aşağıdakilerden hangisi insanın bir dine inanmasının sebeplerinden biri değildir?**

- A) Sorunlarla başa çıkamayıp, acziyete düşmesi
B) Tüm dinlerde aynı ritüellerin bulunması
C) Maddi âlemin ruhu tatmin etmemesi
D) Dua, niyaz ve ilticanın insanı ulvileştirmesi

6. Yahudi tarihinde I. Mabet dönemi ---- zamanında, II. Mabet dönemi ise ---- zamanında başlamıştır.

Cümlede boş bırakılan yerlere aşağıdakilerden hangisi getirilmelidir?

- A) Ezra - Yeşu
B) Hz. Musa - Talut
C) Hz. Davut - Yeşu
D) Hz. Süleyman - Ezra

7. "Kim İslam'dan başka bir din ararsa, (bilsin ki o din) ondan kabul edilmeyecek ve o ahirette hüsrana uğrayanlardan olacaktır."
(Al-i İmrân suresi, 85. ayet)

Bu ayete göre İslam dini hakkında hangisi söylenemez?

- A) Cennet ve cehennem inancı vardır.
B) Allah'ın insanlar için seçtiği din İslam'dır.
C) Batıl dinler Allah tarafından kabul edilmeyecektir.
D) İnsanlar günahkâr olarak doğarlar.

8. • Hristiyanlığa girenlerin eski Yahudi âdetlerine uymalarının zorunlu olmadığını belirtmiştir.
• Onun etkisiyle Hristiyanlık Roma Devleti'nde hızla yayılmaya başlamıştır.
• Yabancıların havarisi diye adlandırılmıştır.

Hakkında bilgi verilen kişi aşağıdakilerden hangisidir?

- A) Martin Luther B) Konstantin
C) Pavlus D) Barnaba

9. **Aşağıdakilerden hangisi Hristiyanlığın Katolik yorumunun özelliklerinden biri değildir?**

- A) Boşanmak serbesttir.
B) Rahiplerin bekârlığı zaruridir.
C) Roma Katolikliğinin merkezidir.
D) Papa, yanılmaz otoritedir.

10. **İslamiyet hakkında aşağıda verilen bilgilerden hangisi yanlıştır?**

- A) Hz. Muhammed (sav.)'e yirmi üç yılda gelen vahiyle tamamlanmıştır.
B) Yedinci yüzyılın başında Arabistan'da doğmuş evrensel bir dindir.
C) İnsanla Allah arasında iletişimi sağlamak için din adamları sınıfı bulunur.
D) Diğer dinlerden ayrılan en önemli özelliği tevhit inancını vurgulamasıdır.

11. "O, sana kitabı hak ve kendisinden öncekileri doğrulayıcı olarak indirdi. O, daha önce Tevrat'ı ve İncil'i insanlar için birer hidayet olarak indirmiştir."
(Âl-i İmrân suresi, 3. ayet)

Bu ayetten aşağıdakilerden hangisine ulaşılamaz?

- A) Tevrat da İncil de vahye dayalıdır.
B) İslam'dan önce de ilahi dinler vardır.
C) Kur'an kendinden önceki kitapları tasdik eder.
D) Kur'an insanlığa tamamen yeni bir öğreti sunar.

1. OTURUM

12. Hinduizm'e ait "kast" kavramının açıklaması aşağıdakilerden hangisidir?

- A) Görev ve gelenekleriyle birbirine sınıksız sarılan insanların oluşturduğu birliktir.
- B) Cesetleri yakarak küllerini kutsal kabul edilen Ganj Nehri'ne dökmektir.
- C) İnsanın beden, zihin ve manevi gücünü bir araya getirme egzersizidir.
- D) Her türlü acı ve kederden mutlak aydınlanmaya kavuşmaktır.

13. • Himalayaların eteğinde küçük bir bölge hükümdarının oğlu olarak dünyaya geldi.
• Asıl adı Siddharta Gautama'dır.
• İlk vaazını "kanun tekerleğini döndürmek" şeklinde açıklamıştır.

Hakkında bilgi verilen din kurucusu hangisidir?

- A) Zerdüş
- B) Buda
- C) Guru Nanak
- D) Konfüçyüs

14. Günümüzde yaşayan kabile dinleri hakkında aşağıdaki bilgilerden hangisi yanlıştır?

- A) Bir din kurucusu bulunmaz.
- B) Yazılı kaynakları yoktur.
- C) Yüce tanrı anlayışı vardır.
- D) Din seçimi serbesttir.

15. Ülkemizde Dinler Tarihi çalışmaları ne zaman başlamıştır?

- A) Osmanlı Devleti'nin son dönemleri
- B) Cumhuriyetin ilk yılları
- C) 1950'li yıllardan sonra
- D) 1980'li yıllardan itibaren

16. Aşağıdakilerden hangisi Yahudilik ile ilgili doğru bir bilgi değildir?

- A) Temel ilkeleri "On emir" üzerine kuruludur.
- B) Günümüzde tek mezhep altında toplanmışlardır.
- C) İbrani, İsrail ve Yahudi gibi isimlerle anılmışlardır.
- D) Yaklaşık iki bin yıllık sürgün hayatı yaşamışlardır.

17. • İran dinleri üzerinde önemli bir etki bırakmıştır.

- Yüce tanrı "Ahura Mazda"tır.
- Mecusilik olarak da bilinir.

Bazı özellikleri verilen din aşağıdakilerden hangisidir?

- A) Zerdüşlük
- B) Budizm
- C) Şintoizm
- D) Caynizm

18. Aşağıdakilerden hangisi Konfüçyüs ile ilgili doğru bir bilgi değildir?

- A) Hayatın her safhasında orta yolun tutulmasını öğütler.
- B) Ahlaki ilkeleri "mükemmel erdem" olarak bilinir.
- C) Kurduğu din hiçbir değişikliğe uğramamıştır.
- D) Diğer ismi Kung Fu -Tzu'dur.

19. Evrimci görüşü savunanlar aşağıdaki kavramlardan hangisini dinin kaynağı olarak ileri sürmemişlerdir?

- A) Mana
- B) Büyü
- C) Totemizm
- D) Vahiy

20. "Doğru bilgi, doğru düşünce, doğru konuşma, doğru davranış, doğru meslek, doğru çaba, doğru gözetim, doğru konsantrasyon" olarak bilinen Buda öğretisini ifade eden kavram aşağıdakilerden hangisidir?

- A) Üç cevher
- B) Sekiz dilimli yol
- C) Tenasüh
- D) Nirvana

(617) SEÇ. DİL VE ANLA. – 7

1. Çavuş, bir eliyle bakır tolgasını tutarak koştu. Kuru Kadı, uzakta, kara yerin üstünde daha kara bir leke gibi yavaş yavaş ilerleyen düşman alayına dikkatle baktı. Gözlerini küçülttü, büyüttü. Önlerinde birkaç top da sürüklüyorlardı. Binden fazla idiler. Hâlbuki hisardaki gaziler? Kendisiyle beraber yüz on dört kişi...

Bu parçada hikâyeye ait yapı unsurlarından hangisi belirgin değildir?

- A) Olay
- B) Mekân
- C) Kişi
- D) Zaman

2. Ah bu türküler
Türkülerimiz
Ana südü gibi candan
Ana südü gibi temiz

Bu dizelerde bulunan söz sanatı aşağıdakilerden hangisidir?

- A) Benzetme
- B) Abartma
- C) Kişileştirme
- D) Tariz

3. Bu gösteride tek oyuncu, anlattığı bir olay ya da hikâyeyi seyirciler önünde hareket ve taklitlerle canlandırır. Bu taklitler ve hareketler sayesinde oyuncunun anlattığı şeyler, bir hikâye olmaktan çıkıp tiyatro oyununu andırır.

Bu parçada kısaca tanıtılan geleneksel tiyatro türü aşağıdakilerden hangisidir?

- A) Karagöz
- B) Orta oyunu
- C) Meddah
- D) Köy seyirlik oyunları

4. Servetifunun Dönemi'nin en başarılı romancısıdır. Ünlü romanı "Aşk-ı Memnu" da varlıklı bir ailedeki Batılı yaşam biçimini anlatır. "Mai ve Siyah" adlı romanında ise o dönemin yaşamına ışık tutmuştur.

Bu parçada hakkında kısaca bilgi verilen sanatçı aşağıdakilerden hangisidir?

- A) Halit Ziya Uşaklıgil
- B) Mehmet Rauf
- C) Hüseyin Cahit Yalçın
- D) Yakup Kadri Karaosmanoğlu

5. Aşağıdakilerden hangisi sanatsal bir metinden alınmıştır?

- A) Dünya nüfusunun önemli bir bölümü diz kırıkdağı sorunu yaşıyor. Ülkemizde de diz kırıkdağı problemi olan milyonlarca insan var.
- B) Şimdiye kadar karbondioksit miktarı arttıkça bitkilerin fotosentezle daha çok karbondioksit kullandığı ve bu karbonun bitkinin yapısında ve toprakta uzun süre tutulduğu, böylece iklim değişme hızının düştüğü düşünülüyordu.
- C) Farklı yaşam koşullarına uyum gösterilebilmeleri sayesinde kutuplarda ya da çölde, denizlerin dibinde ya da çok yükseklerde yaşayan hayvanlara rastlamak mümkün.
- D) Yine olmadı, diye söylendi kendi kendine. Masadaki kâğıdı buruşturup attı. Kaç zamandır dedesinin yaptığı yolculukla ilgili bir yazı yazmayı düşünüyor ancak nasıl yazacağına bir türlü karar veremiyordu.

6. Aşağıdakilerden hangisi anlatmaya bağlı edebî metinlerden değildir?

- A) Masal
- B) Fabl
- C) Şiir
- D) Roman

1. OTURUM

7. Batılı anlamda ilk öykü örneği - - - - tarafından yazılan - - - -.

Bu cümlede boş bırakılan yerlere sırasıyla aşağıdakilerden hangileri getirilmelidir?

- A) Ahmet Mithat Efendi – Kısadan Hisse'dir
B) Rezaizade Mahmut Ekrem – Muhsin Bey'dir
C) Samipaşazade Sezai – Küçük Şeyler'dir
D) Halit Ziya Uşaklıgil – Solgun Demet'tir

8. I. Yer ve zaman kavramları genelde belirgindir.

II. Genel nesir şeklindedir.

III. Dil göndergesel işlevde kullanılır.

IV. Anlatımda geniş zaman ve geçmiş zaman kipleri kullanılır.

Numaralanmış özelliklerden hangileri "masal" için söylenemez?

- A) I ve III. B) I ve IV.
C) II ve III. D) II ve IV.

9. Rönesans'tan sonra - - - -," - - - - " adlı eseriyle öykü türünün ilk örneğini vermiş ve çağdaş öykücülüğün başlatıcısı olmuştur.

Bu cümlede boş bırakılan yerlere sırasıyla aşağıdakilerin hangileri getirilmelidir?

- A) Victor Hugo – Sefiller
B) Maupassant – Ay Işığı
C) Çehov – Vişne Bahçesi
D) Boccaccio – Decameron

10. Aşağıdaki cümlelerin hangisinde mecazımürsel (düz değişmece) yoktur?

- A) Uçağımızın Ankara'ya inmesine yaklaşık on beş dakika kaldı.
B) Her gün biraz Necip Fazıl okumak âdetim oldu.
C) Sessizliği herkesin benim kadar sevdiğini zannetmiyorum.
D) Bu sahada ne ünlü ayaklar top koşturmuştu.

11. Sev seni seveni Hak ile yeksan ise Sevme seni sevmeyeni Mısır'a sultan ise

Bu dizelerdeki gibi aynı ünsüzün sık tekrarıyla yapılan ahenge verilen ad aşağıdakilerin hangisidir?

- A) Asonans B) Aliterasyon
C) Cinas D) Kinaye

12. • Gülünç olaylarla acıklı olayları iç içe anlatan bir tiyatro türüdür.
• Nazım veya nesir şeklinde yazılabılır.
• Amacı seyirciye gerçeği göstermektir.

Bu özellikler aşağıdaki tiyatro türlerinden hangisine aittir?

- A) Drama B) Komedyaya
C) Tragedyaya D) Karagöz'e

13. Aşağıdakilerden hangisi gözlemci anlatıcının bakış açısıyla ilgili söylenemez?

- A) Anlatıcı olayları dışarıdan gözlemleyen bir şahit konumundadır.
B) Olaylar kamera tarafsızlığıyla anlatılır.
C) Kişilerin duygu ve düşünceleri eylemlerinden çıkartılır.
D) Birinci tekil şahıs anlatımı kullanılır.

14. • 17. yüzyılda Fransa'da ortaya çıkan klasik romanda Antik Yunan ve Roma sanatının izleri görülür.

- Natüralist romanda olaylar ve kişiler bir bilim adamı gözüyle incelenir.
• Romantik romanda olaylar ve insanlar gerçekçi bir bakış açısıyla yansıtılır.

Bu cümleler doğru-yanlış açısından değerlendirildiğinde sıralama aşağıdakilerden hangisi olur?

- A) Y – Y – D B) D – D – Y
C) D – Y – D D) Y – D – D

15. Aşağıdaki eserlerden hangisi fabl türüne örnek gösterilemez?

- A) Kelile ve Dimne
B) Pançatantra
C) Divanü Lûgat'it Türk
D) Gülistan

16. Sözlü gelenekten derlenen ilk Türkçe masal kitabı aşağıdakilerin hangisidir?

- A) Billur Köşk Masalları
B) Binbir Gece Masalları
C) Sinbadname
D) Kırk Vezir Hikâyesi

17. Aşağıdakilerden hangisi halk hikâyelerinin özelliklerinden biri değildir?

- A) Olaylar nesirle, duygular nazımla ifade edilir.
B) Anlatımda ilahi bakış açısı kullanılır.
C) Oldukça işlenmiş, süslü ve sanatlı bir dile yer verilir.
D) Kahramanlar gerçeğe yakındır, olağanüstülüklerle fazla yer verilmez.

18. I. Seçilmiş olay ve kişiler üzerine kurulur.

II. Olay, kişi, mekân ilişkisi okurda gerçeklik duygusu uyandırmaz.

III. Olaylar zamana göre mantıklı bir sırayla verilir.

IV. Hikâyede sürpriz son yoktur, beklendik şekilde hikâyeye sona erer.

Numaralanmış özelliklerden hangileri "olay öyküsü" için söylenemez?

- A) I ve II. B) I ve III.
C) II ve IV. D) III ve IV.

19. Aşağıdakilerden hangisi müzikli tiyatro türlerinden biri değildir?

- A) Opera B) Operet
C) Bale D) Vodvil

20. I. Sular gene o sular, kıyı gene o kıyı,

II. Gene çamlar dinliyor uzaktan bir şarkıyı

III. Ah artık görmüyorum, eridi mi ne oldu

IV. İri yeşil gözlerde gördüğüm parıltıyı

Numaralanmış dizelerin hangisinde hayalî öğelere yer verilmiştir?

- A) I. B) II. C) III. D) IV.

1. OTURUM

(618) SEÇ. DİL VE ANLA. – 8

1. Makale türü aşağıdakilerden hangisinin ortaya çıkışıyla başlamıştır?

- A) İnternet
- B) Televizyon
- C) Radyo
- D) Gazete ve dergi

2. "Bilimsel yazı" larla ilgili aşağıdakilerin hangisi söylenemez?

- A) Buluşları iletmek için yazılır.
- B) Kapalı bir anlama sahiptir.
- C) Gerekli donanıma sahip kişiler tarafından yazılır.
- D) Dil, göndergesel işlevde kullanılır.

3. Bu tartışma türünde bir konunun iki farklı yönü ele alınır. Amaç bir tarafın diğerine üstün gelmesi değil, bir fikrin etkili bir şekilde savunulmasını sağlamaktır.

Bu parçada bahsedilen tartışma türü aşağıdakilerden hangisidir?

- A) Sempozyum
- B) Konferans
- C) Münazara
- D) Forum

4. Aşağıdakilerden hangisi münazara başkanının görevlerinden biri değildir?

- A) Tartışmacıların konu dışına çıkmasını engellemek
- B) Tartışmanın gerginleşmesini önlemek
- C) Tartışmanın sınırlarını dinleyicilere açıklamak
- D) Tartışmada tarafını belli etmek

5. Sempozyum bildiriyle ilgili aşağıdakilerin hangisinde bilgi yanlış vardır?

- A) Sunulabilecek yansı sayısı 5-6 civarında olmalıdır.
- B) Hazırlanacak bildiri on sayfadan az olmamalıdır.
- C) Cümleler kolay anlaşılır şekilde düzenlenmelidir.
- D) Yayınlanmaya uygun bir biçimde hazırlanmalıdır.

6. I. Konuşmaları özetlemek
II. Açık oturumun yapılış nedeni
III. Açık oturumu sonuca bağlamak
Numaralanmış ifadelerin açık oturum planına göre doğru sıralaması aşağıdakilerin hangisidir?

- A) II – I – III
- B) III – I – II
- C) II – III – I
- D) I – III – II

7. Aşağıdakilerin hangisinde grup tartışması yoktur?

- A) Konferans
- B) Açık oturum
- C) Münazara
- D) Forum

8. Ülkemizde ilk özel gazeteyi kuran Şinasi ve Ağâh Efendi'nin çıkardıkları - - - - makale türünde yazılara yer verilmiştir.

Bu cümlede boş bırakılan yere aşağıdakilerin hangisi getirilmelidir?

- A) Tasvir-i Efkâr'da
- B) Takvim-i Vakayî'de
- C) Ceride-yi Havadis'te
- D) Tecüman-ı Ahval'de

9. Yazıda geçen herhangi bir söz ya da sözcükle ilgili olarak sayfa altına konan, aydınlatıcı veya kaynak belirten açıklamaya - - - - denir.

Bu cümlede boş bırakılan yere aşağıdakilerin hangisi getirilmelidir?

- A) kaynakça
- B) dipnot
- C) indeks
- D) bibliyografya

10. I. Aynı konuda sürekli söz almaya çalışmak
II. Konuşmaları ilgiyle dinlemek
III. Ortaya çıkan sonucu hoşgörülle karşılamak
IV. Sağlam fikirlerden çok, süslü ve sanatlı söyleyişe önem vermek
Numaralanmış ifadelerden hangisi münazaraya katılanların dikkat etmesi gerekenlerden biri değildir?

- A) I ve II.
- B) I ve IV.
- C) II ve III.
- D) III ve IV.

11. "Karşıt görüşlerin savunulduğu söz yarışı" nitelendirmesi aşağıdakilerin hangisi için en uygundur?

- A) Sempozyum
- B) Forum
- C) Münazara
- D) Açık oturum

12. Yeni bulduğu bir elementle ilgili bilim dünyasını bilgilendirmek isteyen bir kimya profesörünün aşağıdakilerden hangisini tercih etmesi beklenir?

- A) Sempozyum
- B) Açık oturum
- C) Münazara
- D) Konferans

13. Aşağıdaki tartışma türlerinden hangisi yapısı ve özellikleri itibarıyla okullarda uygulanmaya elverişlidir?

- A) Münazara
- B) Sempozyum
- C) Açık oturum
- D) Forum

14. Aşağıdakilerden hangisi sempozyum başkanının görevlerinden değildir?

- A) Başlangıçta konuyla ilgili kısa bir giriş yapmalıdır.
- B) Konuşmacıları gerekli yerlerde fikirleriyle yönlendirmelidir.
- C) Konuşmacıların salonda hazır bulunmalarını sağlamalıdır.
- D) Oturumların amaç ve hedeflerini konuşmacılara aktarmalıdır.

15. - - - - , alanında uzman bir kişinin herhangi bir konu ya da olay hakkında görüş ve düşüncelerini açıklamak amacıyla topluluk önünde yaptığı konuşmalardan oluşan sözlü anlatım türüdür.

Bu cümlede boş bırakılan yere aşağıdakilerden hangisi getirilmelidir?

- A) Sempozyum
- B) Münazara
- C) Konferans
- D) Forum

16. • Forumda dinleyiciler tartışmaya aktif olarak katılamazlar.
• Konferansta dil ağırlıklı olarak samsal işleviyle kullanılır.
• Sempozyumlarda, sempozyum düzenleme kurulu bulunur.

Bu cümleler doğru - yanlış bakımından değerlendirildiğinde sıralama aşağıdakilerin hangisi olur?

- A) D – D – Y
- B) Y – D – D
- C) D – Y – D
- D) Y – Y – D

17. Aşağıdakilerden hangisi Cumhuriyet Dönemi'nin ilk yıllarında yazdığı makalelerle dikkat çeken isimlerden biridir?

- A) Oğuz Atay
- B) Orhan Pamuk
- C) Falih Rıfkı Atay
- D) İsmet Özel

1. OTURUM

18. Aşağıdakilerden hangisi bilimsel yazıların türlerinden biri değildir?

- A) Bilimsel makaleler
- B) Hikâye özetleri
- C) Tarama ve değerlendirme makaleleri
- D) Konferans raporları

19. Bilimsel metinlerin - - - bölümünde araştırma sonucu elde edilen bulgular açık ve anlaşılır bir şekilde ortaya konur, tartışılıp genelleştirilir, başka çalışmalarla ilişkilendirilir.

Bu cümlede boş bırakılan yere aşağıdakilerden hangisi getirilmelidir?

- A) başlık
- B) giriş
- C) asıl metin
- D) tartışma ve sonuç

20. Aşağıdakilerden hangisi münazara tartışmaya elverişli bir konu değildir?

- A) Çocuğun gelişiminde televizyon yer almalı mıdır?
- B) İkokullarda el yazısı öğretilmeli midir?
- C) Osmanlı Devleti'nde nasıl bir esnaf teşkilatlanması vardı?
- D) Eğitim yoluyla savaşlar önenebilir mi?

(627) SEÇ. TÜRK ED. – 7

1. Fıkra yazarının kısa, özlü ve etkili yazabilmek için aşağıdakilerden hangisine sahip olması beklenmez?

- A) Geniş bir genel kültüre
- B) Değişmeyen, sabit fikirlere
- C) Kavrama gücüne
- D) Anlatma yeteneğine

2. Eski Yunan edebiyatında Ksenophon'un Anabasis adlı eseri - - - - türünün ilk örneklerinden sayılır.

Bu cümlede boş bırakılan yere aşağıdakilerden hangisi getirilmelidir?

- A) günlük
- B) fıkra
- C) makale
- D) anı

3. Bu seyahat, artık yolculuktan usanmış bir zamana rastlamış olmakla beraber beni atıklarınca binmiş bir bayram çocuğu gibi eğlendiriyordu. Otoray, son derce munis bir dekor arasında akıp giderken kâh makinistin omuz başından önümüzdeki yola kâh arkaya geçerek akşam ışıklarıyla sararıp kızaran ovalara bakıyordum.

Bu metin aşağıdaki türlerin hangisinden alınmıştır?

- A) Anıdan
- B) Günlükten
- C) Gezi yazısından
- D) Makaleden

4. Deneme türü Türk edebiyatına - - - - sonra girmiştir.

Bu cümlede boş bırakılan yere aşağıdakilerden hangisi getirilmelidir?

- A) Tanzimat'tan
- B) Cumhuriyet'ten
- C) II. Meşrutiyet'ten
- D) Millî Mücadele'den

5. II. Yeni akımı aşağıdaki toplulukların hangisine tepki olarak ortaya çıkmıştır?

- A) Mavicilere
- B) Beş Hececilere
- C) Yedi Meşalecilere
- D) Garipçilere

6. Aşağıdakilerin hangisi Cumhuriyet Dönemi'nin tiyatrocularından biridir?

- A) Cahit Külebi
- B) Turan Oflazoğlu
- C) Ömer Seyfettin
- D) Sait Faik Abasıyanık

7. - - - -; Mahmud ile Yezida, Taziye, Geyikler Lanetler'den oluşan üçlemde seyircinin düş gücünü zorlamış, onu Güneydoğu Anadolu söylencelerinin gizemli karanlığına çıkılan yolculukta varlığın ezeli boyutuyla karşı karşıya getirivermiştir.

Bu cümlede boş bırakılan yere aşağıdakilerden hangisi getirilmelidir?

- A) Refik Erduran
- B) Orhan Asena
- C) Memet Baydur
- D) Murathan Mungan

8. Aşağıdaki eserlerden hangisi Aziz Nesin'e aittir?

- A) Maviydi Bisikletim
- B) Yalnızlığın Oyuncakları
- C) Bir Şey Yap Met
- D) Oyunlarla Yaşayanlar

9. Aşağıdaki cümlelerin hangisinde bilgi yanlış vardır?

- A) Tarık Buğra, "Abdullah Efendi'nin Rüyaları" adlı eseriyle rüyaya ve bilinçaltına yöneldi.
- B) Halide Edip Adıvar, Doğu-Batı sentezini başarıyla yapan ve eserlerinde kadın psikolojisini ön plana çıkaran eserleriyle tanındı.
- C) Sabahattin Ali, Anadolu köy ve kasaba hayatının acıklı hâllerini gerçekçi ve gözlemci bir şekilde yazmıştır.
- D) Sosyal konuları işlerken güzellik duygusunu, insan sevgisini bırakmayan yazarlardan biri de Necati Cumalı'dır.

10. 1950'den sonra yeni arayışlara yönelen Cemal Süreya, Edip Cansever, Turgut Uyar, İlhan Berk gibi şairler yeni bir akım başlattılar. Anlamda kapalılığın değişik çağrışımlarla imgeci bir şiirin savunulduğu bu akım 1965'e kadar sürdü.

Bu parçada hakkında bilgi verilen akım aşağıdakilerden hangisidir?

- A) Maviciler
- B) Yedi Meşaleciler
- C) Beş Hececiler
- D) II. Yeniciler

11. Aşağıdakilerden hangisi Garip topluluğunun şiir anlayışına uymaz?

- A) Ölçü ve uyak gibi ahenk öğelerinden uzak durmak
- B) Süslü ve sanatlı bir söyleyişi önemsemek
- C) Sıradan insanları şiire konu edinmek
- D) Yaşama sevinci ve günlük yaşamı işlemek

12. - - - -; içe dönük, maneviyatçı, bireyci şiirin başarılı örneklerini vermiştir.

Bu cümlede boş bırakılan yere aşağıdakilerden hangisi getirilmelidir?

- A) Necip Fazıl Kısakürek
- B) Nazım Hikmet
- C) Rifat Ilgaz
- D) Necati Cumalı

1. OTURUM

13. Aşağıdakilerden hangisi Yedi Meşalecilerden biri değildir?

- A) Muammer Lütfi
- B) Yaşar Nabi Nayır
- C) Sabri Esat Siyavuşgil
- D) Orhan Seyfi Orhon

14. Ulukışla yoluyla Kayseri'ye gidişinin izlenimlerinden oluşan "Han Duvarları" şiiriyle memleketçi şiirin en güzel örneklerinden birini veren sanatçı aşağıdakilerden hangisidir?

- A) Orhan Veli Kanık
- B) Ahmet Hamdi Tanpınar
- C) Faruk Nafiz Çamlıbel
- D) Yusuf Ziya Ortaç

15. Köyü konu alan edebiyata karşı 1950-1960 arası yazmaya başlamış ----, ----, ---- gibi yazarların eserleriyle yeni bir atılım ortaya çıktı. Yayımlanan eserlerde tedirginlik, yalnızlık gibi temalar egemendi. Bireysel duyarlılıkların işlendiği bu eserlerde biçim kaygısı ağır basıyordu.

Bu parçada boş bırakılan yerlere aşağıdakilerden hangisi getirilemez?

- A) Ferit Edgü
- B) Nezihe Meriç
- C) Orhan Kemal
- D) Yusuf Atılgan

16. Cumhuriyet'in ilk yıllarında İstanbul Şehir Tiyatrosunu ve Devlet Tiyatrosunu yönetip modern Türk tiyatrosunun kurulmasında önemli bir görev üstlenen sanatçı aşağıdakilerden hangisidir?

- A) Refik Erduran
- B) Muhsin Ertuğrul
- C) Sabahattin Kudret Aksal
- D) Haldun Taner

17. Aşağıdaki eser - sanatçı eşleştirmelerinden hangisi yanlıştır?

- A) Gölgeler – Necip Fazıl Kısakürek
- B) Harput'ta Bir Amerikalı – Cevat Fehmi Başkut
- C) Koçyiğit Köroğlu – Ahmet Kutsi Tecer
- D) Atlarla Filler – Oktay Rifat

18. • Deneme türünün öncüsü ve kurucusu Fransız yazar Montaigne'dir.
• Deneme türünde ispatlama kaygısı vardır.
• Edebiyatımızda deneme türünün öncüsü Nurullah Ataç'tır.

Bu cümleler doğru-yanlış bakımından değerlendirildiğinde uygun sıralama aşağıdakilerden hangisi olur?

- A) Y – D – D
- B) D – D – Y
- C) D – Y – D
- D) Y – Y – D

19. Aşağıdakilerden hangisi Kurtuluş Savaşı sürecinde makale türünün gelişmesinde etkili olan gazetelerden biri değildir?

- A) Akşam
- B) Ceride-yi Havadis
- C) Vakit
- D) İrade-yi Milliye

20. Aşağıdakilerden hangisi yurt dışı gezi yazılarına örnektir?

- A) Gide Gide
- B) Bu Diyar Baştan Başa
- C) Anadolu'da
- D) Seyir Defteri

(628) SEÇ. TÜRK ED. – 8

1. Şiirde bazı sözcüklerin, diğerlerine oranla daha baskın okunmasına ---- denir.

Bu cümlede boş bırakılan yere aşağıdakilerden hangisi getirilmelidir?

- A) ölçü
- B) uyak
- C) vurgu
- D) yapı

2. Bütün ayrılıklardan ayrı
Korkulardan azade
Meleklerle el ele
Yağmur yağarcasına gel
Saçlarını çözercesine gel

Bu dizelere hâkim olan duygu aşağıdakilerden hangisidir?

- A) Pişmanlık
- B) Yalnızlık
- C) Korku
- D) Özlem

3. Aşağıdaki dizelerin hangisi farklı bir geleneğe bağlı olarak oluşturulmuştur?

- A) Güney yıldızlarının gölgesi
Mermer duvaklı göğün atlasında
Bir şahmeran masalı dinler gibi
Kendi efsanesine dönük kasaba
- B) Ben nasıl şairim ayıp
Kırk yıldır geçmemişim buradan
Kim bilir kimler geldi, kimler kayıp
Öğrensem anlamı yok sonradan
- C) Esrârını dil zaman zaman söyler imiş
Hengâme-i gamda dâstan söyler imiş
Aşk ehli olup da mihnet-i hicrâne
Ben sabr iderin diyen yalan söyler imiş
- D) Ben başkasının sokağı olsaydım
Eski bir şehre giderdim önce
Evlerin çocuklarla bir büyüdüğü
O sokakta kendime kardeş arardım

4. Toplum hayatını anlatmak, mahallî bir edebiyat yapmak sanatının en önemli özelliğidir. Kuvvetli gözlemleriyle hayat sahnelerini, olayları, konuşmaları bütün özellikleri ve canlılıkları ile eserlerine yansıttı. Şiirlerinde İslami duyarlılığı ile millî kaygılarını birleştirdi.

Bu parçada hakkında bilgi verilen sanatçı aşağıdakilerden hangisidir?

- A) Faruk Nafiz Çamlıbel
- B) Mehmet Âkif Ersoy
- C) Ahmet Muhip Dıranasan
- D) Orhan Veli Kanık

5. Aşağıdakilerden hangisi toplumcu gerçekçi sanatçılar arasında yer almaz?

- A) Oktay Rifat
- B) Arif Damar
- C) Enver Gökçe
- D) Cahit İrgat

6. Anadolu'ya var gücüyle açılan ilk şairimizdir. Yaşlı yollar, ağır giden kervanlar, garip çizgilerle dolu han duvarları, çoban çeşmeleri, efeler, memleketimiz gibi inleyen kağnılar, tükenmez yollarda sabırlı arabacılar ilk önce onun şiirlerinde görülen yeni temalar ve kavramlardır.

Bu parçada sözü edilen sanatçı aşağıdakilerden hangisidir?

- A) Nazım Hikmet
- B) Melih Cevdet Anday
- C) Edip Cansever
- D) Faruk Nafiz Çamlıbel

1. OTURUM

7. • Çoban Çeşmesi
• Bingöl Çobanları
• Olvido

Yukarıda eseri verilmeyen sanatçı aşağıdakilerden hangisidir?

- A) Kemalettin Kamu
B) Ahmet Muhip Dıranas
C) Faruk Nafiz Çamlıbel
D) Cemal Süreya

8. Şiirlerinde aşk ve hüznün duyguları öne çıkan şairlerdendir. Hece şiirlerinin duyarlılığını sürdürürken yeni şiirin biçim olanaklarını da kullandı. Şiirlerinde yalın bir dil ve kendine özgü bir söyleşiye ulaştı. "Yeşil Çağ" şiir kitapları arasındadır.

Bu parçada hakkında bilgi verilen sanatçı aşağıdakilerden hangisidir?

- A) Yahya Kemal Beyatlı
B) Ahmet Hamdi Tanpınar
C) İlhan Geçer
D) Edip Cansever

9. Aşağıdaki eser-sanatçı eşleştirmelerinden hangisi yanlıştır?

- A) Kendi Gök Kubbe - Yahya Kemal Beyatlı
B) Dar Çağ - Behçet Necatigil
C) Divan - Asaf Halet Çelebi
D) Sokak Prensesi - Haydar Ergülen

10. Aşağıdakilerden hangisi II. Yeni sanatçıları arasında yer almaz?

- A) İlhan Berk
B) Edip Cansever
C) Ece Ayhan
D) Kemalettin Kamu

11. Toplumcu şiirde, İkinci Yeni şiirinde fazlaca işlenen bunalım, yalnızlık ve sıkıntının yerini - - - - - , - - - - - , - - - - - gibi temalar almıştır.

Bu cümlede boş bırakılan yerlere aşağıdakilerden hangisi getirilemez?

- A) ümit
B) geleceğe inanç
C) zorluklara direnme
D) kaybetme korkusu

12. Yalnızca şiirin öne çıkarıldığı, asıl olan üründür, anlayışının egemen olduğu bir dönemdir - - - -. Bu dönemde şiirle yeniden yüzleşilir. İnsani duyarlılık ve evrensel deneyimler şiirin gözde değerleri olur. Bu dönem şiiri bir iç hesaplaşmayı da beraberinde getirir. İmgenin içeriği daha saydam bir hâle gelir.

Bu parçada boş bırakılan yere aşağıdakilerden hangisi getirilmelidir?

- A) II. Yeni şiiri
B) 1980 sonrası şiiri
C) Garip şiiri
D) Öz şiir anlayışı

13. O yârin açılmış gülü goncedir
Boyu fidan belî gayet incedir
Mutabık fakirce hemen bencedir
İpek poşulumun güneş başlığımın

Bu dizelerin konusuna göre türü aşağıdakilerden hangisidir?

- A) Güzelleme
B) Koçaklama
C) Taşlama
D) Ağıt

14. Aşağıdakilerden hangisi halk şiirinin özellikleri arasında sayılamaz?

- A) Günlük konuşma dilinin kullanılması
B) Nazım biriminin dörtlük olması
C) Hece ölçüsünün tercih edilmesi
D) Farklı imgelere ve yapı özelliklerine yer verilmesi

15. Aşağıdaki türlerden hangisi anlatmaya bağlı edebî metinlerden değildir?

- A) Roman
B) Hikâye
C) Tiyatro
D) Masal

16. Anadolu cu şiir anlayışına ilk tepki aşağıdaki grupların hangisinden gelmiştir?

- A) II. Yeni
B) Yedi Meşaleciler
C) Beş Hececiler
D) Garipçiler

17. Millî Edebiyat akımının en tipik sürdürücüleridir. Halk şiiri geleneğinden yararlanarak yurt güzelliklerini dile getiren duygusal şiirler yazmışlardır.

Bu parçada sözü edilen şiir topluluğu aşağıdakilerden hangisidir?

- A) Garipçiler
B) Yedi Meşaleciler
C) II. Yeni
D) Beş Hececiler

18. Aşağıdakilerden hangisi Cumhuriyet Dönemi roman ve hikâyesi için söylenemez?

- A) Teknik yönden başarısız eserler verilmiştir.
B) Sade ve anlaşılır bir dil kullanılmıştır.
C) Gerçekçiliğe önem verilmiştir.
D) Konu sınırlandırılması ortadan kalkmıştır.

19. Aşağıdaki sanatçılardan hangisi toplumcu gerçekçi yazarlardan değildir?

- A) Samim Kocagöz
B) Abdülhak Şinasi Hisar
C) Orhan Kemal
D) Kemal Bilbaşar

20. Aşağıdaki sanatçılardan hangisi Yedi Meşaleciler grubunda yer alır?

- A) Sabri Esat Siyavuşgil
B) Ceyhan Atuf Kansu
C) Asaf Halet Çelebi
D) Yusuf Ziya Ortaç

(711) İSLAM TARİHİ – 1

1. Tarihi mekânları, antik şehirleri, bedestenleri ve bimarhaneleri, aşağıdaki hangi tarihî kaynaklar sınıfında değerlendirebiliriz?

- A) Arşivler
B) Müzelik malzemeler
C) Açık hava kaynakları
D) Sözlü ve yazılı kaynaklar

2. İslamiyet öncesi Arap Yarımadası'nın özellikleri arasında aşağıdakilerden hangisi yoktur?

- A) Siyasi birlik
B) Ataerkil sistem
C) Kâbe'nin kutsallığı
D) Anlaşmazlıkların çözümünde kâhinlere ve hakemlere başvurma

3. Arap Yarımadası'nın Kızıldeniz'e kıyısı olan sahil kesimine verilen isim, aşağıdakilerden hangisidir?

- A) Necid
B) Habeşistan
C) Tihame
D) Bahreyn

1. OTURUM

4. Tarihte hangi savaşlar "Ficâr Savaşı" olarak isimlendirilir?
- A) İki Müslüman ülkenin birbirleriyle yaptığı savaşlar
B) Haram aylarında yapılan savaşlar
C) Ramazan ayında yapılan savaşlar
D) Yahudilerle yapılan savaşlar
5. Aşağıdaki görevlerden hangisinin görev alanı "Kâbe'nin perdedarlığı, bakımı ve anahtarını korumak"tır?
- A) Livâ B) Nedve
C) Rifade D) Hicabe
6. Peygamberimizin doğduğu evin yerine inşa edilen yapı, bugün hangi amaçla kullanılmaktadır?
- A) Mekke Doğumevi
B) Mekke Postanesi
C) Mekke Kütüphanesi
D) Mekke Camisi
7. • Arap Yarımadası'nın en eski uluslararası panayıdır.
• Edebi bir kongre özelliği taşır.
• Panayıda dereceye giren şiirler Kâbe'nin duvarına asılır.
- Hakkında kısa bilgi verilen panayı, aşağıdakilerden hangisidir?**
- A) Ukaz B) Debâ
C) Mina D) Aden
8. Hz. Muhammed'in "Kardeşiniz Necaşi vefat etmiştir. Kalkın cenaze namazını kılalım." diyerek gıyabında onun cenaze namazını kıldırıp onurlandırdığı Necaşi, aşağıdaki hangi ülkenin hükümdarıdır?
- A) İran B) Mısır
C) Hindistan D) Habeşistan
9. Aşağıdaki savaşlardan hangisinin sonucunda ganimetlerin paylaşımı, esirlere muamele gibi konularla İslam savaş hukukunun temelleri atılmıştır?
- A) Mute B) Bedir
C) Hendek D) Huneyn
10. Aşağıdakilerden hangisi hicretin sonuçlarından biri değildir?
- A) Yahudilerle Medine Sözleşmesi'nin imzalanması
B) Takvim başlangıcı olarak kabul edilmesi
C) İlk İslam şehir devletinin kurulması
D) Kur'an'ın kitap hâline getirilmesi
11. İslam ordusu, aşağıdaki savaşların hangisinde, askerlerin kendisine verilen emirlere uymayarak görev yerlerini terk etmeleri nedeniyle başarı kazanmamıştır?
- A) Uhut B) Hendek
C) Huneyn D) Pasinler
12. Hz. Muhammed, aşağıdakilerin hangisinin kolları arasında "ma'r'refiki'l a'la" (en yüce dost) diyerek vefat etmiştir?
- A) Hz. Ebu Bekir B) Hz. Hatice
C) Hz. Aişe D) Hz. Ali
13. Müslümanlığı bırakıp başka bir dine geçmiş olan kimseye ne isim verilir?
- A) Mürteci B) Mürted
C) Mürsel D) Mürd
14. "Her bir halifenin göreve gelmesi, İslam'ın koyduğu ölçüler içinde gerçekleşmiş,I..... veII..... seçim sisteminin temel ilkeleri olmuştur."
- Verilen bilgi cümlesinin anlamca doğru olabilmesi için numaralandırılarak boş bırakılan yerlere, aşağıdaki seçeneklerden hangisi yazılmalıdır?**
- | | | |
|----|---------|-------|
| | I | II |
| A) | şura | biat |
| B) | dâi | cihat |
| C) | gaza | gazve |
| D) | Muhacir | Ensar |
15. Aşağıdaki olaylardan hangisi, Müslümanlar arasında ayrılık çıkmasına neden olmuştur?
- A) Hz. Muhammed'in vefatı
B) Abbasi Devleti'nin kurulması
C) Hz. Ebu Bekir'in halifelğe seçilmesi
D) Siffin Savaşı ve Hakem Olayı'nın yaşanması
16. İspanya'da kurulan ilk İslam devleti, aşağıdakilerden hangisidir?
- A) Eyyubi Devleti
B) Abbasi Devleti
C) Samanoğulları Devleti
D) Endülüs Emevi Devleti
17. Müslüman olmaları hâlinde kendilerinden haraç alınmayacağını belirtmesi üzerine, Kuzey Afrika'daki Berberiler ile Maveraünnehir Bölgesi'ndeki kavimlerin Müslüman olmasına vesile olan Emevi halifesi, aşağıdakilerden hangisidir?
- A) Ömer b. Abdülaziz
B) Mervan b. Hakem
C) Abdülmelik b. Mervan
D) Süleyman b. Abdülmelik
18. Emevilerin yıkılış nedenleri arasında aşağıdakilerden hangisi yer almaz?
- A) Arap milliyetçiliği yapmaları
B) Hz. Ali taraftarlarının çalışmaları
C) Atabeylerin bağımsızlıklarını ilan etmeleri
D) Hilafet makamını elde etmek için yapılan mücadeleler
19. İbn Rüş'tün öğrencisi olan Yahudi İbn Meymun'un yetkin olduğu bilim dalı, aşağıdakilerden hangisidir?
- A) Astronomi B) Felsefe
C) Kimya D) Fizik
20. Maliki mezhebini Endülüs'ün resmi mezhebi ilan eden Endülüs Emevi emiri aşağıdakilerden hangisidir?
- A) I. Abdurrahman
B) II. Abdurrahman
C) I. Hakem
D) I. Hişam

1. OTURUM

(813) AKAİD VE KELAM – 1

1. Aşağıdakilerden hangisinde bulunduğu halden dolayı dinen sorumluluk kaldırılmamıştır?

- A) Ergenliğe ulaşmamış çocuk
- B) İyileşmemiş akıl hastası
- C) Uyanıncaya kadar uyuyan kişi
- D) Ayılıncaya kadar sarhoş olan kişi

2. Aşağıdakilerden hangisi "usul-i selâse" olarak adlandırılan iman esaslarından biri değildir?

- A) Allah'a iman
- B) Peygamberlere iman
- C) Meleklerle iman
- D) Ahirete iman

3. Aşağıdakilerden hangisi akaid ve kelim ilminin temel konuları arasında yer almaz?

- A) Allahın varlığı ve sıfatları
- B) Peygamberlerin hayatları
- C) Ahiret inancı
- D) Nübüvvet

4. İslam fıkında insanlar arasındaki hukuki, beşeri ve sosyal ilişkileri düzenleyen hükümler aşağıdakilerden hangisiyle isimlendirilir?

- A) Muamelat
- B) Ukûbat
- C) İbadet
- D) Feraiz

5. Aşağıdakilerden hangisi "zarûrât-ı dîniye"den biri değildir?

- A) Faizin haram olduğuna inanmak
- B) Beş vakit namazın farz olduğuna inanmak
- C) Ramazan orucunun farz olduğuna inanmak
- D) Yemeği sağ elle yemenin sünnet olduğuna inanmak

6. Allah'ın ilahlığında, isim, sıfat ve fiillerinde eşî dengi ve ortağı bulunduğunu kabul edenler aşağıdakilerden hangisi ile isimlendirilir?

- A) Kâfir
- B) Müşrik
- C) Münafık
- D) Fasık

7. Aşağıdakilerden hangisi yapıldığı takdirde kişiyi küfre sokacak davranışlardan biridir?

- A) Allah'tan başkasına secde etmek
- B) Kur'an'ın herhangi bir ayetini inkâr etmek
- C) Peygamberlerden birinin peygamberliğini reddetmek
- D) Dinin helal kıldığına helal, haram kıldığına haram demek

8. Aşağıdaki ayetlerden hangisi imanın kalben tasdiki ile ilgili değildir?

- A) "Ey Peygamber! Kalpten inandırdıkları hâlde, ağızlarıyla "İnadık" diyenler (münafıklar) ile Yahudilerden küfürde yarışanlar seni üzmesin..." (Mâide suresi, 41. ayet)
- B) "Allah kimi doğru yola iletmek isterse onun kalbini İslâm'a açar; kimi de sapırtmak isterse göğeyi çıkıyormuş gibi kalbini iyice daraltır..." (En'âm suresi, 125. ayet)
- C) "Kim iman ettikten sonra Allah'ı inkâr ederse -kalbi iman ile dolu olduğu halde (inkâra) zorlanan başka- fakat kim kalbini kâfirlığe açarsa, işte Allah'ın gazabı bunlardır; onlar için büyük bir azap vardır." (Nahl suresi, 106. ayet)
- D) "Hamd, Âlemlerin Rabbi, Rahmân, Rahîm, hesap ve ceza gününün (ahiret gününün) mâlikî Allah'a mahsustur." (Fâtîha suresi, 2 ve 4. ayetler)

9. Taklidi iman ile ilgili aşağıda verilen bilgilerden hangisi yanlıştır?

- A) Delillere dayanmaksızın iman etmektir.
- B) Ehli sünnet âlimlerinin çoğuna göre geçersizdir.
- C) Taklidi iman sapık kimselerin fikirleriyle sarsıntıya uğrayabilir.
- D) Taklitten kurtulmak için imanı, dini ve akli deliller ile güçlendirmek gerekir.

10. Bir insanın kelime-i tevhid'i ve kelime-i şehadet'i inanarak söylemesi aşağıdaki iman türlerinden hangisi ile isimlendirilir?

- A) Tahkiki
- B) Taklidi
- C) İcmali
- D) Tafsili

11. İlk inen ayetlerin ana vurgusu aşağıdakilerden hangisine olmuştur?

- A) Allah inancı
- B) Meleklerle iman
- C) Ahiret
- D) Nübüvvet

12. Kur'an-ı Kerim'de Yahudi ve Hristiyanları müşriklerden ayırt etmek için "Tevrat, Zebur ve İncil'e inananlar" anlamında aşağıdaki kavramlardan hangisi kullanılmaktadır?

- A) Münafık
- B) Ehl-i suffice
- C) Ashab-ı kehf
- D) Ehl-i kitap

13. Aşağıdakilerden hangisi Allah'ın varlığı ve birliği konusundaki delillerin amaçlarından biri değildir?

- A) Doğabilecek şüpheleri gidermek
- B) Mümini imanında sağlamlaştırmak
- C) İnsanın dünya ve ahiret mutluluğunu sağlamak
- D) İbadetlerin nasıl yapılacağını insanlara öğretmek

14. Âlemin varlığının zorunlu değil, mümkün olduğu fikrinden yola çıkılarak ortaya konan akli delil aşağıdakilerden hangisidir?

- A) Hudûs
- B) İmkân
- C) Gaye ve nizam
- D) Naklî

15. Aşağıdakilerden hangisi Allah'ın zatî sıfatlarından biridir?

- A) Kıdem
- B) İlim
- C) Basar
- D) Kudret

1. OTURUM

(931) SİYER – 1

16. **Yalnızca Allah'a iman eden bir insanda aşağıdaki davranışlardan hangisinin bulunması yanlıştır?**

- A) Mal, mevki ve şöhrete tapmaktan kaçınması
- B) Rızkı verenin yalnızca Allah olduğunu bilmesi
- C) Yiğitlik, cesaret gibi duygulara sahip olması
- D) Türbelerden medet umması

17. "Sûr'a üflenir ve Allah'ın dilediği kimseler dışında göklerdeki herkes ve yerdeki herkes ölür. Sonra ona bir daha üflenir, bir de bakarsın onlar kalkmış bekliyorlar."

(Zümer suresi, 68. ayet)

Bu ayette aşağıdaki meleklerden hangisinin görevinden bahsedilmektedir?

- A) Mikâil
- B) İsrail
- C) Azrail
- D) Cebrail

18. **Melekler ile ilgili aşağıdaki bilgilerden hangisi yanlıştır?**

- A) Ölümsüz varlıklardır.
- B) Farklı suretlere bürünebilirler.
- C) İnsanlardan önce yaratılmışlardır.
- D) Devamlı Allah'a itaat ve ibadet ile meşgul olurlar.

19. "Süleyman'ın ölümüne hükmettiğimiz zaman, onun ölümünü onlara ancak değneğini yemekte olan bir kurt gösterdi. Süleyman'ın cesedi yıkılınca cinler anladılar ki, eğer gaybı bilmiş olsalardı aşağılayıcı azap içinde kalmamış olacaktılar."

(Sebe suresi, 14. ayet)

Bu ayette cinlerin hangi özelliğine vurgu yapılmaktadır?

- A) Yalın bir ateşten yaratılmışlardır.
- B) Erkek ve dişilik özellikleri vardır.
- C) Gaybı bilme gibi bir özellikleri yoktur.
- D) İnanma ve inanmama konusunda irade sahibidirler.

20. **Arşı taşımakla görevli melekler aşağıdakilerden hangisidir?**

- A) Hamele-i arş
- B) Rıdvan
- C) Mukarrebun
- D) Kiramen Kâtibin

1. Aşağıdaki ayetlerden hangisi Hz. Peygamber'in hayatını öğrenmenin gerekliliğini vurgulamaktadır?

- A) "(Resulüm!) De ki: eğer Allah'ı seviyorsanız bana uyun ki Allah da sizi sevsin ve günahlarınızı bağışlasın..."
(Al-i İmran suresi, 31. ayet)
- B) "Onda apaçık deliller, Makam-ı İbrahim vardır..."
(Al-i İmran suresi, 97. ayet)
- C) "...Ataları bir şey anlamayan, doğru yolu bulamayan kimseler olsalar da mı (onların yoluna uycaklar)?"
(Bakara suresi, 170. ayet)
- D) "Hayat ancak bu dünyada yaşadığımızdır, ölüyoruz ve yaşarız. Bizi ancak zaman helak eder."
(Casiye suresi, 24. ayet)

2. Aşağıdakilerden hangisi Hz. Peygamber'in hayatını öğrenmede öncelikli kaynaklardan biri değildir?

- A) Siyer kitapları
- B) Hadis kitapları
- C) Kur'an-ı Kerim
- D) Fıkıh usulü

3. Hicaz bölgesindedir. "Güvenli şehir" ve "şehirlerin anası (ümmü'l-kura)" diye de isimlendirilir.

Hakkında bilgi verilen şehir aşağıdakilerden hangisidir?

- A) Medine
- B) Taif
- C) Mekke
- D) Yemen

4. İslam öncesi Arap Yarımadası ile ilgili bilgilerden hangisi doğru değildir?

- A) Çölde göçebe olarak yaşayanlara bedevî denir.
- B) Kanunlar, atalardan kalma örflerden oluşur.
- C) Yerleşik hayat yaşayanlarına hadarî denir.
- D) Edebiyatta yazılı kültür gelişmiştir.

5. "Lat ve Uzza'ya ve diğer üçüncüsü Menat'a ne dersiniz? Erkek size de, dişi O'na mı? Öyle ise bu çok insafsızca bir paylaştırmadır. Onlar ancak sizin ve atalarınızın (ilah edindiğiniz şeylere) taktığı isimlerdir..."

(Necm suresi, 19 - 23. ayetler)

Bu ayette İslam öncesi Arapların hangi adet ve uygulamalarına bir eleştiri yapılmıştır?

- A) Kendilerinin ve atalarının putlara tapmaları
- B) Asabiyet nedeniyle kan davası gütmeleri
- C) Doğan kız çocuklarını diri diri gömmeleri
- D) Köleleri panayırlarda alıp satmaları

6. Hz. Peygamber'in çocukluğuyla ilgili aşağıdaki bilgilerden hangisi doğru değildir?

- A) Babası onun doğumundan önce vefat etmiştir.
- B) Evleninceye kadar dayısının yanında kalmıştır.
- C) Annesi o altı yaşındayken vefat etmiştir.
- D) Muhammed ismini dedesi vermiştir.

7. Hz. Peygamber'in gençliğiyle ilgili verilen bilgilerden hangisi doğru değildir?

- A) Yirmi beş yaşında evlenmiştir.
- B) Erdemliler Birliği'ne katılmıştır.
- C) Alış - veriş usullerini öğrenmiştir.
- D) Marangoz ve demircilikle uğraşmıştır.

8. "Bu Kur'an, iki şehrin (Mekke ve Taif) ileri gelenlerinden bir büyük adama indirilse olmaz mıydı? dediler."

(Zuhruf suresi, 31. ayet)

Bu ayette müşrikler Hz. Peygamber'in hangi yönünü eleştirmektedirler?

- A) Emin kişi olmasını
- B) Ticaretle uğraşmasını
- C) Fakir ve kimsesiz olmasını
- D) Hak ve adaleti savunmasını

9. Hz. Peygamber'e ilk vahiy geldiğinde, Hz. Hatice'nin akrabası olan ve kendisiyle istişare edilen bilge kişi aşağıdakilerden hangisidir?

- A) Zeyd b. Harise
- B) Varaka b. Nevfel
- C) Hz. Ebu Bekir
- D) Utbe b. Rebia

1. OTURUM

10. "Fetretü'l-vahiy" kavramının karşılığı aşağıdakilerden hangisidir?

- A) Vahyin kesintiye uğraması
- B) Vahyin parça parça gelmesi
- C) Vahyin derilere yazılması
- D) Vahyin ezberlenmesi

11.

İslam'ı İlk Kabul Edenler	
Aile Bireylerinden	Hız. Hatice
Yakın Arkadaşlarından	Zeyd b. Harise
Kölelerden	Hız. Ebu Bekir
Çocuklardan	Hız. Ali

Tablodaki isimlerden hangileri birbirleri ile yer değiştirirse yanlışlık giderilmiş olur?

- A) Hız. Hatice - Hız. Ali
- B) Zeyd b. Harise - Hız. Ebu Bekir
- C) Hız. Ebu Bekir - Hız. Ali
- D) Hız. Hatice - Zeyd B. Harise

12. Mekke'de müşriklerce ağır işkence görüp şehit olan ilk kadın kimdir?

- A) Hız. Hatice
- B) Hız. Fatıma
- C) Hız. Sümeyye
- D) Hız. Hacer

13. Aşağıdakilerden hangisi müşriklerin İslam'ı kabul etmeme nedenlerinden biri değildir?

- A) Ahiret inancının olmayışı
- B) Atalarının dinine bağlılıkları
- C) Hız. Peygamber'in güvenilir olması
- D) Toplumsal yapının değişmesini istememeleri

14. Aşağıdakilerden hangisi Müslümanların hicret için Habeşistan'ı seçme sebeplerinden biri değildir?

- A) Müşriklerin baskısından uzak bir konumda olması
- B) Bereketli topraklara sahip olması
- C) Halkının Hristiyan olması
- D) Hükümdarının adil olması

15. • Darü'l- Erkam'da Müslüman olan son kişidir.

- Onun İslam'ı kabul etmesi ile birlikte Müslümanlar açıktan ibadet etmeye başlamışlardır.

Hakkında bilgi verilen sahabe aşağıdakilerden hangisidir?

- A) Hız. Ömer
- B) Hız. Ebu Bekir
- C) Hız. Hamza
- D) Hız. Osman

16. Aşağıdakilerden hangisi müşriklerin Müslümanlara boykot uygulama nedenlerinden biri değildir?

- A) Müslümanların sayılarının giderek artması
- B) Hız. Hamza ve Hız. Ömer'in Müslüman olmaları
- C) Habeşistan kralının Müslümanları iyi karşılaması
- D) Müslümanlar ile müşriklerin farklı kabilelerden olmaları

17. Aşağıdakilerden hangisi müşriklerin Müslümanlara karşı aldığı boykot kararlarından biri değildir?

- A) Alışveriş yapılmayacak
- B) Kız alınıp verilmeyecek
- C) Mallarına el konulmayacak
- D) Merhamet gösterilmeyecek

18. Hüzün Yılı'nda denilen 620 yılında Hız. Peygamber aşağıdaki yakınlarından hangilerini kaybetmiştir?

- A) Ebu Talip - Hız. Hamza
- B) Hız. Hamza - Hız. Zeynep
- C) Ebu Talip - Hız. Hatice
- D) Hız. Zeynep - Hız. Hatice

19. "Kendisine ayetlerimizden bir kısmını gösterelim diye kulunu (Muhammed'i) bir gece Mescid-i Haram'dan çevresini bereketlendirdiğimiz Mescid-i Akşa'ya götüren Allah'ın şanı yücedir..." (İsra suresi, 1. ayet)

Bu ayette hakkında bilgi verilen olay aşağıdakilerden hangisidir?

- A) İsra
- B) Hicret
- C) Biat
- D) Mevlit

20. Aşağıdaki ayetlerden hangisinin nazil olmasıyla "yakın çevreye davet dönemi" başlamıştır?

- A) Ankebut suresi, 1-5. ayetler
- B) Müddessir suresi, 1-5. ayetler
- C) Yâsîn suresi, 1-5. ayetler
- D) Bakara suresi, 1-5. ayetler

(974) GİRİŞİMCİLİK – 1

1. Tüm işletmelerde birimlerin çalışırken birbirleri ile uyumlu olması şartı, yönetimin temel işlevlerinden hangisi ile ilgilidir?

- A) Planlama
- B) Organizasyon
- C) Koordinasyon
- D) Sevk ve idare

2. Daha önceden üretilip, üretimde kullanılan tüm değerlerin karşılığı aşağıdakilerden hangisidir?

- A) Emek
- B) Üretim
- C) Sermaye
- D) Doğal kaynaklar

3. Fırsat müteşebbisliği türünde, aşağıdakilerden hangisi yapılmaz?

- A) Pazar fırsatlarını değerlendirmek.
- B) Piyasaya herkesten önce girmek.
- C) Yeni bir buluş üzerinde çalışmak.
- D) İhtiyaç duyulan malları önceden fark etmek.

4. Aşağıdakilerden hangisi, müteşebbin ekonomik bir kaynak olduğunu göstermez?

- A) Risk alması
- B) Kâr amacı gütmemesi
- C) Mal ve hizmet üretmeyi hedeflemesi
- D) Üretim faktörlerini bir araya getirmesi

5. Aşağıdakilerden hangisi, dünyada müteşebbisliğin önemli bir konuma sahip olmasının nedenlerinden biri değildir?

- A) İthalatın artmasını sağlar.
- B) İşsizlikle mücadele eder.
- C) Bilimin gelişmesini sağlar.
- D) Kamu hizmetlerinin kalitesini artırır.

6. Bilim adamı Abraham H. Maslow'un ihtiyaç hiyerarşisine göre, diğer bütün gereksinimlerini karşılayan insanlarda görülebilecek ihtiyaç hangisidir?

- A) Fizyolojik
- B) Başarma
- C) Saygı
- D) Ait olma

1. OTURUM

7. Başka fiziksel malların yapımı için kullanılan, temel özellikleri kısmen yada tamamen değişen mal türü aşağıdakilerden hangisidir?

- A) Hammaddeler
- B) İşletme gereçleri
- C) Yatırım donatım malları
- D) Üretim gereçleri ve parçaları

8. Aşağıdakilerden hangisi arz kapsamında değerlendirilecek özelliklerden biridir?

- A) Kâr sağlama
- B) Topluma hizmet etme
- C) İşletmenin yaşamını sürdürme
- D) Belli bir fiyat karşılığının olması

9. Bir işletmenin iş güvenliği ile ilgili yapacakları, aşağıda verilenlerden hangisi kapsamında planlanmalıdır?

- A) İşletmenin işlevleri
- B) İşletmenin özellikleri
- C) İşletmenin özel amaçları
- D) İşletmenin genel amaçları

10. Aşağıdakilerden hangisi, işletme yönetiminde başarılı bir yöneticinin "Destekleyicilik" niteliğini göstermektedir?

- A) Tutarlı davranışlar gösterme
- B) Kişisel heyecanını kanıtlama
- C) Başarıyı arama, bulma ve kullanma
- D) Etkileme ve duygularını anlayabilme

11. Planlama ile ilgili verilen açıklamalardan hangisi doğru değildir?

- A) Planlama akılcı bir yöntemdir.
- B) Planlama ile yüksek risk alınmış olunur.
- C) Planlama ileriye görerek önceden karar vermedir.
- D) Davranış biçimlerinin önceden tespit edilmesidir.

12. Bir girişimci, yapacağı üretim çalışmalarını planlanmasında, aşağıdakilerden hangisine öncelikle ihtiyaç duymaz?

- A) Doğal kaynaklara
- B) Emek ve sermayeye
- C) Planlama yapacak kişilere
- D) Yöneticilerin belirlenmesine

13. Sosyal sorumluluk ile ilgili kalite belgesi aşağıdakilerden hangisidir?

- A) ISO 8000
- B) ISO 9000
- C) ISO 14000
- D) ISO 22000

14. Aşağıdakilerden hangisi kamu işletmelerinin kuruluş nedenleri arasında yer almaz?

- A) Mali nedenler
- B) Sosyal nedenler
- C) Yasal nedenler
- D) Ekonomik nedenler

15. Aşağıdakilerden hangisi, bir işletmenin şirket olabilmesi için uygun bir şart değildir?

- A) Ortak bir amaç olmalıdır.
- B) Ortaklar arası bir görüşme olmalıdır.
- C) Ortak üretim elemanlarına sahip olunmalıdır.
- D) Şirket kuranların sayısı birden çok olmalıdır.

16. Aşağıdakilerden hangisi işletmenin özel amaçlarından değildir?

- A) Kâr sağlamak
- B) Topluma hizmet etmek
- C) İşletmenin yaşamını devam ettirmek
- D) Mal ve hizmet kalitesini sürekli arttırmak

17. "Açık hava reklamı" aşağıdaki reklam çeşitlerinden hangisi ile ilgilidir?

- A) Coğrafi açıdan
- B) Yapanlar açısından
- C) Reklam içeriği açısından
- D) Kullanılan araç açısından

18. Üretim yönetimi dönüşüm sürecinde aşağıdakilerden hangisi çıktı olarak kabul edilir?

- A) Sermaye
- B) Emek
- C) Girişimci
- D) Hizmetler

19. Aşağıdaki açıklamalardan hangisi, satışın temel ilkelerinden biri değildir?

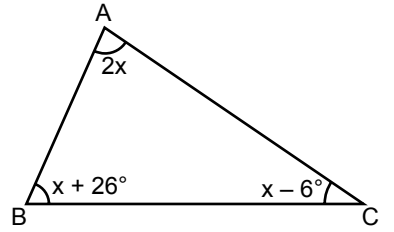
- A) Satış, satıcıya göre düzenlenmelidir.
- B) Pazar ve rakiplerin şartları bilinmelidir.
- C) Satış için gereken tüm çabalar sarfedilmelidir.
- D) Pazarlama elemanlarına uygun şartlar yaratılmalıdır.

20. Satış sürecinin aşamalarıyla ilgili olarak aşağıdakilerden hangisi yanlıştır?

- A) Dikkat çekme
- B) İsteğin arza dönüşmesi
- C) İlginin isteğe dönüşmesi
- D) Satışın gerçekleştirilmesi

(999) MATEMATİK – 2

1.



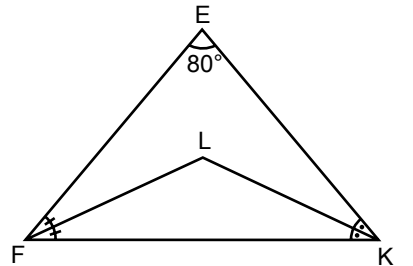
Şekildeki ABC üçgeninde

$m(\widehat{CAB}) = 2x$, $m(\widehat{ABC}) = x + 26^\circ$ ve $m(\widehat{BCA}) = x - 6^\circ$ dir.

Buna göre x kaç derecedir?

- A) 26
- B) 34
- C) 40
- D) 60

2.



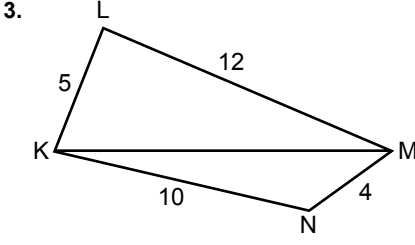
Şekildeki EFK üçgeninde

$m(\widehat{KEF}) = 80^\circ$ ve $[FL]$, \widehat{EFK} 'nın; $[KL]$, \widehat{EKF} 'nin açıortaylarıdır.

Buna göre $m(\widehat{KLF})$ kaç derecedir?

- A) 100
- B) 110
- C) 120
- D) 130

1. OTURUM



Şekildeki LKM ve KNM üçgenlerinde $|KL| = 5$ cm, $|LM| = 12$ cm, $|MN| = 4$ cm ve $|NK| = 10$ cm'dir.

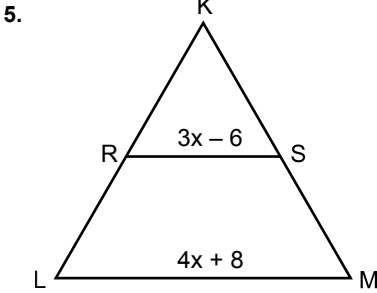
Buna göre $|KM|$ 'nin santimetre cinsinden alabileceği en büyük tam sayı değeri kaçtır?

- A) 13 B) 14 C) 15 D) 16

4. $\widehat{KLM} \cong \widehat{PRS}$ 'tir.

$|LM| = (5x + 6)$ cm, $|RS| = (3x + 10)$ cm ve $|KM| = 4x$ cm olduğuna göre $|KM|$ kaç santimetredir?

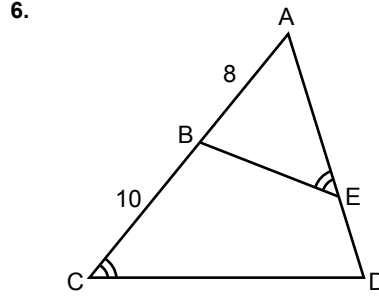
- A) 6 B) 8 C) 12 D) 16



Şekildeki KLM üçgeninde $|KR| = |RL|$ ve $[RS] \parallel [LM]$ 'dir.

$|RS| = (3x - 6)$ cm ve $|LM| = (4x + 8)$ cm olduğuna göre $|LM|$ kaç santimetredir?

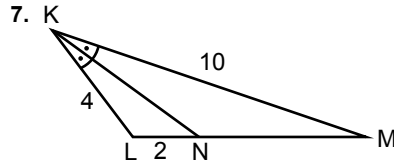
- A) 12 B) 16 C) 36 D) 48



Şekildeki ACD üçgeninde $B \in [AC]$, $m(\widehat{BEA}) = m(\widehat{ACD})$, $|AB| = 8$ cm, $|BC| = 10$ cm ve $|AE| = 2|ED|$ 'tir.

Buna göre $|ED|$ kaç santimetredir?

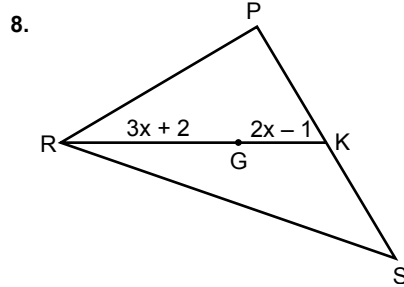
- A) $\sqrt{6}$ B) $2\sqrt{2}$
C) $2\sqrt{6}$ D) 6



Şekildeki KLM üçgeninde $[KN]$, \widehat{LKM} 'nin açıortayıdır.

$|KM| = 10$ cm, $|KL| = 4$ cm ve $|LN| = 2$ cm olduğuna göre $|NM|$ kaç santimetredir?

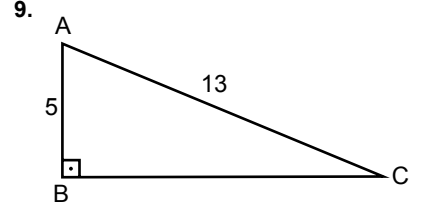
- A) 5 B) 6 C) 7 D) 8



Şekildeki G noktası PRS üçgeninin ağırlık merkezidir.

$|RG| = (3x + 2)$ cm ve $|GK| = (2x - 1)$ cm olduğuna göre $|RK|$ kaç santimetredir?

- A) 18 B) 21 C) 24 D) 27



Şekildeki ABC üçgeninde

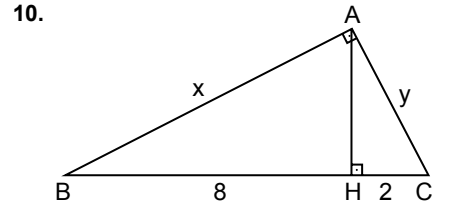
$|AB| = 5$ cm,

$|AC| = 13$ cm ve

$m(\widehat{ABC}) = 90^\circ$ dir.

Buna göre $A(\widehat{ABC})$ kaç santimetre-rekaredir?

- A) 65 B) 48 C) 36 D) 30



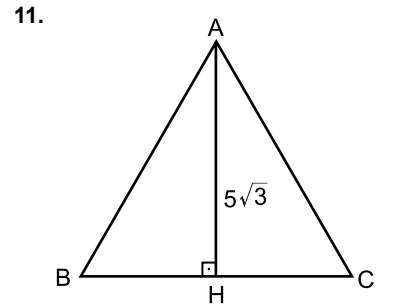
Şekildeki ABC üçgeninde

$[AB] \perp [AC]$, $[AH] \perp [BC]$,

$|BH| = 8$ cm ve $|HC| = 2$ cm'dir.

Buna göre $x + y$ kaçtır?

- A) 6 B) $4\sqrt{5}$
C) $6\sqrt{5}$ D) 14



Şekildeki ABC eşkenar üçgeninde $[AH] \perp [BC]$ ve $|AH| = 5\sqrt{3}$ cm'dir.

Buna göre $|AB|$ kaç santimetredir?

- A) 10 B) 15 C) 20 D) 25

1. OTURUM

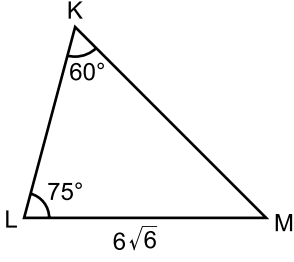
12. $\sin 110^\circ$, $\cos 230^\circ$, $\tan 55^\circ$ ve $\cot 289^\circ$ değerlerinin işaretleri sırasıyla aşağıdakilerden hangisinde verilmiştir?

- A) +, +, +, + B) +, -, -, +
C) +, -, +, - D) -, +, -, +

13. $\sin 150^\circ \cdot \cot 150^\circ$ işleminin sonucu kaçtır?

- A) $-\frac{\sqrt{3}}{2}$ B) $-\frac{1}{2}$
C) $\frac{1}{2}$ D) $\frac{\sqrt{3}}{2}$

14.

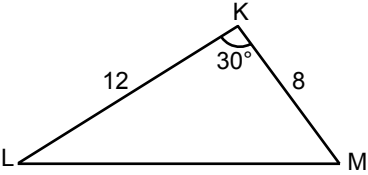


Şekildeki KLM üçgeninde $m(\widehat{MKL}) = 60^\circ$, $m(\widehat{KLM}) = 75^\circ$ ve $|LM| = 6\sqrt{6}$ cm'dir.

Buna göre $|KL|$ kaç santimetredir?

- A) 6 B) 8 C) 10 D) 12

15.

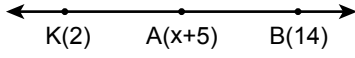


Şekildeki KLM üçgeninde $m(\widehat{MKL}) = 30^\circ$, $|KL| = 12$ cm ve $|KM| = 8$ cm'dir.

Buna göre $A(\widehat{KLM})$ kaç santimetrekaredir?

- A) 12 B) 24 C) 48 D) 96

16.



Şekildeki sayı doğrusunda K(2), A(x+5), B(14) ve $2|\overrightarrow{KA}| = |\overrightarrow{KB}|$ 'tir.

Buna göre x kaçtır?

- A) 2 B) 3 C) 4 D) 5

17. P(6) ve R(13) noktaları veriliyor.

Buna göre $|\overrightarrow{PR}|$ kaç birimdir?

- A) 19 B) 13 C) 7 D) 6

18. Bir şehrin beş günlük sıcaklık değerleri 24°C , 15°C , 13°C , 17°C ve 11°C 'dir.

Buna göre bu şehrin beş günlük sıcaklık değerlerinin aritmetik ortalaması kaç $^\circ\text{C}$ 'dir?

- A) 16 B) 15 C) 14 D) 13

19. 1, 5, 4, 3, 5, 3, 7, k, 6, 2, 3 veri grubunun ortanca değeri 4 olduğuna göre k aşağıdakilerden hangisi olamaz?

- A) 2 B) 4 C) 8 D) 16

20. Bir madeni para 6 kez havaya atılıyor.

Buna göre paranın üst yüzüne dört kez yazı, iki kez tura gelme olasılığı kaçtır?

- A) $\frac{3}{32}$ B) $\frac{5}{32}$ C) $\frac{11}{64}$ D) $\frac{15}{64}$

TEST BİTTİ.

CEVAPLARINIZI KONTROL EDİNİZ.

CEVAP KÂĞIDI VE SORU KİTAPÇIĞI İLE İLGİLİ AÇIKLAMALAR

1. Cevap kâğıdınızdaki bilgilerin doğruluğunu kontrol ediniz ve cevap kâğıdınızı mürekkepli kalemle imzalayınız.
2. Cevap kâğıdı üzerinde kodlamalarınızı siyah kurşun kalemle yapınız.
3. Değiştirmek istediğiniz bir cevabı, yumuşak silgiyle cevap kâğıdını örselemeden temizce siliniz ve yeni cevabınızı kodlayınız.
4. Soru kitapçığının sayfalarını görevlilerin uyarıları doğrultusunda kontrol ediniz, baskı hatası var ise değiştirilmesini sağlayınız.
5. Soruların çözümü için size ayrıca boş kâğıt verilmeyecektir. Soru kitapçığının içindeki boş alanları soru çözümleri için kullanabilirsiniz.
6. Her sorunun dört seçeneğinden sadece biri doğrudur. Doğru seçeneği, cevap kâğıdınızın ilgili sütununa soru numarasını dikkate alarak yuvarlağın dışına taşırmadan kodlayınız. Soru kitapçığı üzerinde yapılan cevaplandırmalar dikkate alınmayacaktır.
7. Cevaplamaya istediğiniz dersin sorusundan başlayabilirsiniz. Cevabını bilmediğiniz sorular üzerinde fazla zaman kaybetmeden diğer sorulara geçiniz. Zamanınız kalırsa bu sorulara daha sonra dönebilirsiniz.
8. Yanlış cevaplarınız dikkate alınmadan sadece doğru cevaplarınız üzerinden puanlama yapılacaktır.
9. Soruları ve sorulara verdiğiniz cevapları, yanınızda götürmek amacıyla kaydetmeyiniz; hiçbir şekilde dışarı çıkarmayınız.
10. Sınav bitiminde soru kitapçığı ve cevap kâğıdını salon görevlilerine teslim ediniz.

SALON GÖREVLİLERİNCE SINAV BAŞLAMADAN ÖNCE ADAYLARA YAPILACAK SON UYARILAR

- Soracağınız bir şey varsa şimdi sorunuz, sınav başladıktan sonra sorularınıza cevap verilmeyecektir.
- Başlama zilini bekleyiniz.

Hepinize başarılar dileriz.

(Salon başkanı başlama ve bitiş saatini tahtaya yazacaktır.)

Bu kitapçığın her hakkı saklıdır. Hangi amaçla olursa olsun, kitapçığın tamamının veya bir kısmının Millî Eğitim Bakanlığı Ölçme, Değerlendirme ve Sınav Hizmetleri Genel Müdürlüğünün yazılı izni olmadan kopya edilmesi, fotoğraflarının çekilmesi, bilgisayar ortamına alınması, herhangi bir yolla çoğaltılması, yayımlanması veya başka bir amaçla kullanılması yasaktır. Bu yasağa uymayanlar, doğabilecek cezai sorumluluğu ve kitapçığın hazırlanmasındaki mali külfeti peşinen kabullenmiş sayılır.

18 MART 2017 TARİHİNDE YAPILAN AÇIKÖĞRETİM LİSESİ / MESLEKİ AÇIKÖĞRETİM LİSESİ
2016-2017 ÖĞRETİM YILI 2. DÖNEM SINAVI 1. OTURUM T KİTAPÇIĞI CEVAP ANAHTARI

(111) DİN KÜL. AHL. BİL. – 1

1. C
2. D
3. B
4. A
5. B
6. A
7. C
8. D
9. B
10. D
11. A
12. C
13. D
14. C
15. C
16. D
17. A
18. D
19. B
20. A

(115) DİN KÜL. AHL. BİL. – 5

1. C
2. D
3. A
4. B
5. D
6. A
7. D
8. D
9. B
10. B
11. C
12. D
13. A
14. B
15. C
16. C
17. A
18. D
19. B
20. C

(123) SEÇMELİ FELSEFE – 1

1. D
2. C
3. D
4. C
5. C
6. A
7. C
8. A
9. D
10. A
11. B
12. D
13. A
14. C
15. B
16. D
17. B
18. A
19. B
20. D

(136) TARİH – 6

1. A
2. B
3. D
4. A
5. C
6. C
7. D
8. A
9. C
10. C
11. B
12. D
13. B
14. B
15. C
16. A
17. D
18. B
19. A
20. D

(112) DİN KÜL. AHL. BİL. – 2

1. C
2. D
3. B
4. B
5. A
6. C
7. D
8. D
9. A
10. B
11. C
12. A
13. C
14. A
15. C
16. D
17. B
18. D
19. A
20. D

(121) FELSEFE – 1

1. C
2. A
3. C
4. D
5. C
6. D
7. B
8. D
9. A
10. D
11. A
12. D
13. C
14. B
15. B
16. A
17. C
18. B
19. A
20. C

(132) TARİH – 2

1. B
2. B
3. C
4. A
5. D
6. C
7. B
8. A
9. B
10. C
11. A
12. B
13. B
14. C
15. D
16. A
17. C
18. C
19. A
20. D

(151) COĞRAFYA – 1

1. B
2. C
3. B
4. B
5. A
6. C
7. D
8. A
9. C
10. D
11. A
12. B
13. A
14. B
15. C
16. D
17. B
18. A
19. D
20. C

18 MART 2017 TARİHİNDE YAPILAN AÇIKÖĞRETİM LİSESİ / MESLEKİ AÇIKÖĞRETİM LİSESİ
2016-2017 ÖĞRETİM YILI 2. DÖNEM SINAVI 1. OTURUM T KİTAPÇIĞI CEVAP ANAHTARI

(155) COĞRAFYA – 5	(181) İNGİLİZCE – 1	(181) FRANSIZCA – 1	(244) ALMANCA – 5
1. D	1. C	1. A	1. D
2. D	2. A	2. A	2. A
3. C	3. B	3. D	3. B
4. D	4. B	4. B	4. C
5. A	5. A	5. C	5. D
6. B	6. C	6. B	6. C
7. B	7. D	7. C	7. A
8. C	8. D	8. D	8. B
9. A	9. B	9. C	9. D
10. C	10. C	10. A	10. C
11. A	11. A	11. D	11. A
12. B	12. C	12. B	12. B
13. D	13. A	13. A	13. B
14. B	14. A	14. C	14. C
15. A	15. C	15. D	15. D
16. B	16. B	16. B	16. A
17. C	17. B	17. A	17. C
18. D	18. D	18. D	18. B
19. A	19. A	19. C	19. D
20. C	20. D	20. A	20. A

(157) COĞRAFYA – 7	(181) ALMANCA – 1	(244) İNGİLİZCE – 5	(244) FRANSIZCA – 5
1. B	1. C	1. A	1. B
2. D	2. A	2. D	2. A
3. C	3. B	3. B	3. D
4. B	4. A	4. C	4. A
5. C	5. D	5. A	5. A
6. A	6. C	6. C	6. D
7. B	7. A	7. B	7. C
8. A	8. C	8. D	8. B
9. D	9. B	9. B	9. A
10. A	10. A	10. A	10. B
11. C	11. D	11. C	11. D
12. B	12. B	12. B	12. C
13. B	13. B	13. C	13. C
14. D	14. D	14. A	14. B
15. D	15. C	15. B	15. A
16. A	16. A	16. A	16. D
17. A	17. D	17. C	17. D
18. C	18. C	18. B	18. A
19. D	19. B	19. D	19. C
20. C	20. D	20. D	20. B

18 MART 2017 TARİHİNDE YAPILAN AÇIKÖĞRETİM LİSESİ / MESLEKİ AÇIKÖĞRETİM LİSESİ
2016-2017 ÖĞRETİM YILI 2. DÖNEM SINAVI 1. OTURUM T KİTAPÇIĞI CEVAP ANAHTARI

(401) DİL ve ANLATIM – 1

1. B
2. C
3. D
4. A
5. C
6. D
7. B
8. C
9. D
10. B
11. A
12. D
13. D
14. B
15. A
16. B
17. D
18. A
19. C
20. B

(407) DİL ve ANLATIM – 7

1. B
2. A
3. D
4. C
5. C
6. B
7. A
8. C
9. B
10. D
11. D
12. C
13. A
14. A
15. B
16. B
17. D
18. C
19. C
20. B

(414) TÜRK EDEBİYATI – 4

1. A
2. B
3. D
4. C
5. A
6. A
7. B
8. A
9. D
10. B
11. C
12. C
13. A
14. D
15. D
16. C
17. C
18. B
19. A
20. C

(418) TÜRK EDEBİYATI – 8

1. C
2. A
3. A
4. C
5. D
6. A
7. C
8. A
9. C
10. B
11. B
12. C
13. B
14. D
15. D
16. A
17. C
18. D
19. B
20. A

(402) DİL ve ANLATIM – 2

1. C
2. C
3. A
4. B
5. A
6. D
7. B
8. A
9. D
10. D
11. C
12. C
13. B
14. D
15. B
16. A
17. C
18. B
19. A
20. C

(408) DİL ve ANLATIM – 8

1. C
2. B
3. A
4. C
5. D
6. C
7. B
8. A
9. A
10. C
11. B
12. D
13. C
14. B
15. B
16. D
17. A
18. C
19. B
20. D

(417) TÜRK EDEBİYATI – 7

1. D
2. A
3. C
4. C
5. B
6. B
7. D
8. A
9. D
10. B
11. D
12. C
13. B
14. A
15. C
16. D
17. B
18. C
19. D
20. A

(421) FİZİK – 1

1. D
2. D
3. A
4. B
5. C
6. D
7. B
8. A
9. C
10. D
11. A
12. D
13. C
14. B
15. C
16. A
17. B
18. B
19. A
20. D

18 MART 2017 TARİHİNDE YAPILAN AÇIKÖĞRETİM LİSESİ / MESLEKİ AÇIKÖĞRETİM LİSESİ
2016-2017 ÖĞRETİM YILI 2. DÖNEM SINAVI 1. OTURUM T KİTAPÇIĞI CEVAP ANAHTARI

(425) FİZİK – 5

1. A
2. A
3. C
4. D
5. D
6. A
7. C
8. B
9. B
10. C
11. B
12. C
13. D
14. B
15. A
16. B
17. D
18. C
19. A
20. D

(436) KİMYA – 6

1. D
2. C
3. D
4. B
5. D
6. A
7. B
8. B
9. A
10. D
11. D
12. B
13. A
14. D
15. C
16. A
17. C
18. A
19. C
20. A

(443) BİYOLOJİ – 3

1. B
2. A
3. D
4. C
5. B
6. D
7. C
8. B
9. A
10. B
11. C
12. D
13. A
14. A
15. A
16. C
17. D
18. B
19. A
20. D

(461) EKONOMİ. – 1

1. D
2. A
3. D
4. C
5. C
6. A
7. B
8. C
9. A
10. D
11. A
12. A
13. B
14. C
15. B
16. B
17. B
18. D
19. C
20. A

(432) KİMYA – 2

1. C
2. A
3. D
4. C
5. B
6. C
7. A
8. D
9. B
10. C
11. D
12. B
13. C
14. A
15. B
16. C
17. D
18. A
19. D
20. B

(441) BİYOLOJİ – 1

1. D
2. A
3. D
4. B
5. A
6. C
7. A
8. C
9. B
10. C
11. B
12. D
13. C
14. B
15. B
16. D
17. C
18. D
19. A
20. A

(446) BİYOLOJİ – 6

1. B
2. D
3. B
4. A
5. C
6. C
7. A
8. B
9. C
10. B
11. D
12. A
13. A
14. C
15. D
16. C
17. A
18. D
19. B
20. A

(465) TEMEL DİNİ BİL.– 1

1. A
2. C
3. C
4. D
5. A
6. A
7. C
8. B
9. D
10. D
11. C
12. B
13. B
14. A
15. B
16. C
17. B
18. B
19. D
20. A

18 MART 2017 TARİHİNDE YAPILAN AÇIKÖĞRETİM LİSESİ / MESLEKİ AÇIKÖĞRETİM LİSESİ
2016-2017 ÖĞRETİM YILI 2. DÖNEM SINAVI 1. OTURUM T KİTAPÇIĞI CEVAP ANAHTARI

(477) İŞLETME – 2

1. A
2. C
3. C
4. A
5. B
6. C
7. D
8. B
9. A
10. C
11. D
12. C
13. A
14. B
15. D
16. C
17. A
18. B
19. B
20. D

(484) SAĞLIK BİLGİSİ – 2

1. D
2. C
3. D
4. A
5. B
6. C
7. C
8. B
9. A
10. B
11. D
12. A
13. D
14. B
15. C
16. A
17. C
18. B
19. D
20. A

(502) İNGİLİZCE – 8

1. B
2. D
3. A
4. C
5. D
6. B
7. C
8. B
9. A
10. B
11. C
12. D
13. A
14. D
15. B
16. A
17. C
18. B
19. A
20. D

(502) FRANSIZCA – 8

1. C
2. B
3. A
4. D
5. B
6. D
7. B
8. A
9. A
10. C
11. D
12. A
13. C
14. C
15. A
16. D
17. A
18. C
19. C
20. B

(479) MANTIK – 2

1. B
2. A
3. B
4. A
5. D
6. C
7. D
8. A
9. B
10. A
11. D
12. B
13. C
14. A
15. C
16. B
17. D
18. C
19. D
20. B

(491) TRAF. VE İLK YARD. – 1

1. A
2. D
3. C
4. B
5. D
6. C
7. A
8. B
9. A
10. B
11. C
12. C
13. D
14. A
15. D
16. B
17. C
18. B
19. A
20. C

(502) ALMANCA – 8

1. B
2. C
3. B
4. D
5. B
6. A
7. C
8. D
9. A
10. B
11. C
12. D
13. B
14. A
15. D
16. C
17. A
18. B
19. D
20. B

(511) FIKİH – 1

1. D
2. A
3. D
4. A
5. D
6. B
7. C
8. B
9. C
10. A
11. D
12. A
13. C
14. B
15. A
16. D
17. C
18. B
19. B
20. A

18 MART 2017 TARİHİNDE YAPILAN AÇIKÖĞRETİM LİSESİ / MESLEKİ AÇIKÖĞRETİM LİSESİ
2016-2017 ÖĞRETİM YILI 2. DÖNEM SINAVI 1. OTURUM T KİTAPÇIĞI CEVAP ANAHTARI

(532) HZ. MUHAMMED'İN HAY. – 2

1. B
2. D
3. A
4. C
5. D
6. B
7. A
8. D
9. C
10. B
11. C
12. D
13. A
14. B
15. B
16. A
17. D
18. B
19. C
20. C

(611) KARŞ. DİN. TARİHİ – 1

1. B
2. D
3. C
4. A
5. B
6. D
7. D
8. C
9. A
10. C
11. D
12. A
13. B
14. D
15. A
16. B
17. A
18. C
19. D
20. B

(618) SEÇ. DİL ve ANLA. – 8

1. D
2. B
3. C
4. D
5. B
6. A
7. A
8. D
9. B
10. B
11. C
12. D
13. A
14. B
15. C
16. D
17. C
18. B
19. D
20. C

(628) SEÇ. TÜRK ED. –8

1. C
2. D
3. C
4. B
5. A
6. D
7. D
8. C
9. C
10. D
11. D
12. B
13. A
14. D
15. C
16. B
17. D
18. A
19. B
20. A

(609) MATEMATİK – 6

1. A
2. B
3. D
4. C
5. A
6. B
7. C
8. A
9. D
10. A
11. C
12. B
13. A
14. D
15. B
16. D
17. C
18. B
19. A
20. C

(617) SEÇ. DİL ve ANLA. – 7

1. D
2. A
3. C
4. A
5. D
6. C
7. C
8. A
9. D
10. C
11. B
12. A
13. D
14. B
15. C
16. A
17. C
18. C
19. D
20. B

(627) SEÇ. TÜRK ED. –7

1. B
2. D
3. C
4. A
5. D
6. B
7. D
8. C
9. A
10. D
11. B
12. A
13. D
14. C
15. C
16. B
17. A
18. C
19. B
20. D

(711) İSLAM TARİHİ – 1

1. C
2. A
3. C
4. B
5. D
6. C
7. A
8. D
9. B
10. D
11. A
12. C
13. B
14. A
15. D
16. D
17. A
18. C
19. B
20. D

18 MART 2017 TARİHİNDE YAPILAN AÇIKÖĞRETİM LİSESİ / MESLEKİ AÇIKÖĞRETİM LİSESİ
2016-2017 ÖĞRETİM YILI 2. DÖNEM SINAVI 1. OTURUM T KİTAPÇIĞI CEVAP ANAHTARI

(813) AKAD VE KELAM – 1

1. D
2. C
3. B
4. A
5. D
6. B
7. C
8. D
9. B
10. C
11. A
12. D
13. D
14. B
15. A
16. D
17. B
18. A
19. C
20. A

(974) Girişimcilik – 1

1. C
2. C
3. C
4. B
5. A
6. B
7. A
8. D
9. C
10. D
11. B
12. D
13. A
14. C
15. B
16. D
17. D
18. D
19. A
20. B

(931) SİYER – 1

1. A
2. D
3. C
4. D
5. A
6. B
7. D
8. C
9. B
10. A
11. B
12. C
13. C
14. B
15. A
16. D
17. C
18. C
19. A
20. B

(999) MATEMATİK – 2

1. C
2. D
3. A
4. B
5. D
6. C
7. A
8. B
9. D
10. C
11. A
12. C
13. A
14. D
15. B
16. B
17. C
18. A
19. A
20. D