



AYLIK ÖĞRETİM LİSESİ / MESLEKİ AYLIK ÖĞRETİM LİSESİ
2016 - 2017 ÖĞRETİM YILI
EK SINAV

3.
OTURUM

8 EKİM 2017 Saat: 09.30

DERS KODU VE ADI	SAYFA	DERS KODU VE ADI	SAYFA	DERS KODU VE ADI	SAYFA
(113) DİN KÜL. AHL. BİL. – 3	3	(242) FRANZIZCA – 3	22	(478) MANTIK – 1	43
(114) DİN KÜL. AHL. BİL. – 4	4	(403) DİL VE ANLATIM – 3	23	(500) İNGİLİZCE – 6	44
(116) DİN KÜL. AHL. BİL. – 6	5	(405) DİL VE ANLATIM – 5	24	(500) ALMANCA – 6	45
(122) FELSEFE – 2	6	(406) DİL VE ANLATIM – 6	26	(500) FRANZIZCA – 6	46
(124) SEÇMELİ FELSEFE – 2	7	(413) TÜRK EDEBİYATI – 3	27	(503) SEÇMELİ TARİH – 3	47
(133) TARİH – 3	8	(416) TÜRK EDEBİYATI – 6	28	(504) SEÇMELİ TARİH – 4	48
(134) TARİH – 4	9	(426) FİZİK – 6	30	(505) SEÇMELİ COĞRAFYA – 3	49
(142) T.C. İNK. TAR. ATA. – 2	10	(427) FİZİK – 7	31	(506) SEÇMELİ COĞRAFYA – 4	50
(153) COĞRAFYA – 3	12	(428) FİZİK – 8	33	(533) HZ. MUHAMMED'İN HAY. – 3	51
(154) COĞRAFYA – 4	13	(433) KİMYA – 3	34	(534) HZ. MUHAMMED'İN HAY. – 4	53
(158) COĞRAFYA – 8	14	(434) KİMYA – 4	36	(542) TÜRK DİLİ VE ED. – 2	54
(163) MATEMATİK – 3	15	(435) KİMYA – 5	37	(608) DEM. VE İNSAN HAK. – 2	56
(165) MATEMATİK – 5	17	(445) BİYOLOJİ – 5	38	(615) SEÇ. DİL VE ANLA. – 5	57
(206) PSİKOLOJİ – 1	18	(448) BİYOLOJİ – 8	38	(616) SEÇ. DİL VE ANLA. – 6	58
(209) SOSYOLOJİ – 2	19	(452) ÇAĞ.TÜRK DÜN.TAR. – 2	40	(626) SEÇ. TÜRK ED. – 6	60
(242) İNGİLİZCE – 3	20	(462) EKONOMİ – 2	41	(975) GİRİŞİMCİLİK – 2	61
(242) ALMANCA – 3	21	(468) MATEMATİK – 3	42		

ADAYLARIN DİKKATİNE!

- Her ders için 20 soru bulunmaktadır. Bu oturumda **180** dakikalık cevaplama süreniz vardır. Sınav başladıktan sonra ilk **30** dakika tamamlanmadan dışarı çıkmayınız.
- Sınav sırasında çanta, cep telefonu, saat, kablosuz iletişim sağlayan cihazlar ve kulaklık, kolye, küpe, bilezik, yüzük, broş ve benzeri eşyalar ile her türlü elektronik ve/veya mekanik cihazları yanınızda bulundurmuyunuz. Bu araçları yanınızda bulundurmanız ve kopya çekmeye teşebbüs etmeniz hâlinde sınavınız geçersiz sayılacaktır.
- Başvuru şartlarını taşımadığınız hâlde sınava girmeniz, kopya çekmeniz, başka adayın sınav evrakını kullanmanız, geçerli kimlik belgenizi ve sınav giriş belgenizi ibraz edemediğiniz durumlarda sınavınız geçersiz sayılacaktır.
- Sınavın değerlendirilmesi aşamasında, bilgisayar ortamında yapılan kopya analizinde sistemin ikili ve/veya toplu kopya tespiti hâlinde sınavınız geçersiz sayılacaktır.
- Adaylar, sınav kurallarına ve salon görevlilerinin tüm uyarılarına uymak zorundadır. Kurallara ve uyarılara uymayan adayların sınavları geçersiz sayılacaktır.**
- Sınav başladıktan sonra adayların salon görevlileri ve birbirleri ile konuşmaları; kalem, silgi vb. şeyleri istemeleri yasaktır.
- Adaylar sınav süresince, sınav giriş belgesi ile geçerli kimlik belgelerinden birinin aslını (fotoğraflı nüfus cüzdanı, pasaport veya sürücü belgesi) masalarının üzerinde bulundurmamak zorundadır.
- Sınav evraklarını teslim etmeyen, soru kitapçıklarının sayfalarından bir kısmını eksik teslim edenlerin sınavları geçersiz sayılacaktır.**
- Sınav başlamadan önce kitapçığın arkasındaki açıklamaları okuyunuz.

BAŞLAYINIZ DENMEDEN SORU KİTAPÇIKLARINI AÇMAYINIZ.

(113) DİN KÜL. AHL. BİL. – 3

1. • Allah'ın isimlerinden biridir. Her şey kendisine muhtaç olduğu halde kendisi hiçbir şeye muhtaç olmayan anlamına gelir.
• Allah'ın subuti sıfatlarından biridir. Yoktan var etmek, var olmayı örneği ve benzeri olmadığı halde ortaya koymak demektir.

Bu isim ve sıfatlar aşağıdakilerden hangisidir?

- A) Samed - Tekvin
B) Vücut - Kıdem
C) Kudret - İrade
D) İlim - Kelam

2. Allah'ın her şeyi önceden bilip takdir etmesine ne denir?

- A) Kaza B) Tevekkül
C) İlim D) Kader

3. Aşağıdakilerden hangisi Kur'an-ı Kerim'le ilgili doğru bir bilgi değildir?

- A) Hızlı ve seri bir şekilde okunması gerekir.
B) Dünya ve ahiret mutluluğuna ulaştırır.
C) Hükümleri kıyamete kadar geçerlidir.
D) Allah ile iletişim kurma yollarından biridir.

4. Aşağıdakilerden hangisi temel inanç esaslarından biri değildir?

- A) Allah B) Peygamberler
C) Ahiret D) Salih ameller

5. Aşağıdakilerden hangisi "zatî sıfatları" ifade etmektedir?

- A) Meleklerle ait olan sıfatlar
B) Sadece Allah'a ait olan sıfatlar
C) Sadece insanlara ait olan sıfatlar
D) Allah'ta sınırsız diğer canlılar da sınırlı olan sıfatlar

6. Peygamberler çok zeki, akıllı ve anlayışlı kimselerdir.

Bu cümlede peygamberlerin sıfatlarından hangisine değinilmiştir?

- A) Emanet B) Tebliğ
C) Fetanet D) İsmet

7. • Mucize
• Resul
• Nebi

Aşağıdaki tanımlardan hangisi bu kavramlardan birine ait değildir?

- A) Kendisine kutsal kitap gönderilen peygamberlerdir.
B) Kişinin dünyada yaptığı amellerden sorgulanmasıdır.
C) Kutsal kitap verilmeyip önceki kitaplara uyan peygamberlerdir.
D) Allah'ın emri ile yalnız peygamberlerin gösterdiği olağanüstü işlerdir.

8. Aşağıdakilerden hangisi kadere inanan kişinin davranışları arasında yer almaz?

- A) Sıkıntının sebebini kadere yükler.
B) Yanlış tutum ve davranışlardan vazgeçer.
C) İnsanlara karşı adaletli ve merhametlidir.
D) Allah'ın emir ve yasaklarına uymaya özen gösterir.

9. Allah'a saygı ile boyun eğmek, emirlerine itaat etmek, vermiş olduğu sayısız nimetlere karşı şükran borcunu yerine getirmektir.

Tanımı verilen kavram aşağıdakilerden hangisidir?

- A) Dua B) İnanç
C) İbadet D) Nübüvvet

10. Aşağıdakilerden hangisi inanç ile ibadet arasındaki ilişki hakkında doğrudur?

- A) İnanmak için ibadet etmek şarttır.
B) İbadet inancı korur ve kuvvetlendirir.
C) İnanmak ile ibadet etmek aynı şeydir.
D) Her ikisi de eşit derecede önemlidir.

11. İnanan kimse elinde olmayan sıkıntı ve felaketler karşısında bunalıma düşmez, bunların Allah'ın takdiri olduğunu bilir. Kendi hatasının sonucunda karşılaştığı durumlarda ise pişman olur, yanlış tutum ve davranışlardan vazgeçer.

Bu paragrafta aşağıdaki inanç esaslarından hangisi vurgulanmaktadır?

- A) Kitaplara iman
B) Peygamberlere iman
C) Ahirete iman
D) Kader ve kazaya iman

12. Bir davranışın ibadet sayılabilmesi için öncelikle - - - şarttır.

Yukarıdaki cümlede boş bırakılan yere hangisinin getirilmesi uygun olur?

- A) niyet etmek
B) abdest almak
C) iman etmek
D) dua etmek

13. "Sav." ifadesinin açılımı aşağıdakilerden hangisidir?

- A) Aleyhisselam
B) Semiallahu limen hamideh
C) Sallallahu aleyhi vessellem
D) Selamün aleykum ve rahmetullah

14. I. Beden ile yapılan
II. Mal ile yapılan
III. Hem mal hem beden ile yapılan

Yukarıdaki ibadet çeşitlerine verilen örneklerin sıralaması hangisinde doğru verilmiştir?

- | | I. | II. | III. |
|----------|-------|--------|------|
| A) Oruç | Zekât | Hac | |
| B) Namaz | Oruç | Umre | |
| C) Oruç | Namaz | Hac | |
| D) Namaz | Zekât | Sadaka | |

15. Aşağıdakilerden hangisi Hz. Peygamberin sünnet çeşitlerine verilen isimlerden biri değildir?

- A) Fiili B) Takriri
C) Sözlü D) Örfi

16. Kur'an-ı Kerim'in doğru bilgi, doğru inanç ve doğru davranışlarla gösterdiği İslam yoluna - - - denir.

Cümlede boş bırakılan yere hangisinin getirilmesi gerekir?

- A) sırat-ı müstakim
B) esbab-ı nüzul
C) tilavet
D) tefsir

17. Hz. Muhammed (sav.) İslam'ı tebliğ etmeye öncelikle kimlerden başlamıştır?

- A) Mekke'nin ileri gelenlerinden
B) Kimsesiz ve yoksullardan
C) Devlet başkanlarından
D) Yakın akrabalarından

3. OTURUM

18. Kur'an-ı Kerim'in anlamının kısa açıklamalarla başka bir dile çevrilmesine ne ad verilir?

- A) Tefsir B) Meal
C) Suhuf D) Tecvit

19. Aşağıdakilerden hangisi tövbeyi geçerli kılan durumlardan biri değildir?

- A) Günahı terk etmek
B) Yaptığına pişman olmak
C) İçten ve samimi olmak
D) Ölüm anında yapmak

20. Allah'ın rızasını kazanmak için yapılan her güzel iş, söz ve davranıştır.

Bu tanımda ifade edilen kavram hangisidir?

- A) Vacip B) Salih amel
C) Tevekkül D) Nimet

(114) DİN KÜL. AHL. BİL. – 4

1. • Selçuklu döneminde resmî kurum niteliği kazanmıştır.
• En büyüğü 1067'de Nizamülmülk tarafından kurulmuştur.
• "Ders okunan yer" anlamına gelir.

Hakkında bilgi verilen eğitim kurumu aşağıdakilerden hangisidir?

- A) Küttap B) Medrese
C) Suffe D) Cami

2. Aşağıdakilerden hangisi tüm hak ve özgürlüklerin temelini oluşturur?

- A) İbadet etme hakkı
B) Özel yaşamın gizliliği hakkı
C) Seçme ve seçilme hakkı
D) Yaşama ve sağlık hakkı

3. I. İlim ve hikmet, Müslümanın yitiğidir. Nerede bulursa onu alır.
II. İzin almadan bir kimsenin evinin içine bakmak hiç kimseye helal değildir.
III. Kişi, elinin emeğiyle kazandığından daha temiz bir kazanç elde etmemiştir.

Bu hadislerde konu edinilen temel hak ve hürriyetlerin doğru sıralaması aşağıdakilerden hangisidir?

- A) Ekonomik, İnanç, İbadet
B) Düşünce, İbadet, İnanç
C) Eğitim, Özel yaşamın gizliliği, Ekonomik
D) Düşünce, Özel yaşamın gizliliği, Eğitim

4. Aşağıdakilerden hangisi kötü alışkanlıkların, hak ve özgürlüklerin kullanımına etkisi ile ilgili doğru bir bilgi değildir?

- A) Temel hak ve hürriyetlerden uzaklaştırır.
B) Bazı hakların kullanımı tehlikeye girer.
C) Kumar ekonomik haklara darbe vurur.
D) Hürriyetlerin önündeki tehditleri ortadan kaldırır.

5. Aşağıdakilerden hangisi hukuk kurallarının temel amacıdır?

- A) İnsanlar arasında adalet ve eşitliği sağlamak
B) İnsanları zararlı alışkanlıklardan korumak
C) Din ve vicdan hürriyetini devam ettirmek
D) İbadethaneleri serbestçe kullanıma açmak

6. Topluma ya da kişiye zarar vermek İslam dininde aşağıdakilerden hangisiyle ifade edilir?

- A) Gıybet etme
B) İftira etme
C) Kul hakkı ihlali
D) Kamu hakkı ihlali

7. Aşağıdaki Türk-İslam âlimlerinden hangisi tıp ilmi alanındaki çalışmalarıyla tanınmıştır?

- A) Piri Reis B) İbni Sina
C) İbni Rüşd D) Harezmi

8. Gökyüzünü izlemeye yarayan, gezegenlerin yerini tespit etmede kullanılan Usturlabı (Teleskop) icat eden İslam âlimi aşağıdakilerden hangisidir?

- A) El Biruni
B) Farabi
C) İbrahim el-Fezari
D) Ömer Hayyam

9. • Taberi
• Zemahşeri
• Ebussuud Efendi

Bu isimler aşağıdaki bilim dallarından hangisi ile ilişkilidir?

- A) Astronomi B) Tefsir
C) Hadis D) Matematik

10. Aşağıdakilerden hangisi taassupla ilgili yanlış bir bilgidir?

- A) Saygı ve hoşgörü ortamında gelişir.
B) Farklılıklara karşı çıkmaya neden olur.
C) Bir düşünceye körü körüne bağlanmaktır.
D) Düşmanı ilim, dostu cahilliktir.

11. İslam tarihindeki ilk eğitim kurumu aşağıdaki mescitlerden hangisinin bünyesinde yer almıştır?

- A) Mescid-i Kibleteyn
B) Kuba Mescidi
C) Mescid-i Nebi
D) Mescid-i Haram

12. Aşağıdakilerden hangisi dinin doğru kaynaklardan öğrenilmesinin sonuçlarından biri değildir?

- A) Yozlaşmanın başlaması
B) Dinin iyi anlaşılması
C) Halkın aydınlanması
D) Barışın hâkim olması

13. "Birbirinizin gizli ve ayıp hallerini araştırmayınız."
(Hucurat suresi, 12. ayet)

Bu ayet hangi temel hak ve özgürlüğe vurgu yapmaktadır?

- A) Yaşama ve sağlık hakkı
B) İnanç özgürlüğü
C) Düşünce özgürlüğü
D) Özel yaşamın gizliliği hakkı

14. Din ve bilim hakkında aşağıda verilen bilgilerden hangisi yanlıştır?

- A) Bilim nasıl sorusuna cevap arar.
B) Din niçin sorusuna cevap arar.
C) Din ve bilim insanı özgürleştirir.
D) Din ve bilim çatışır.

15. Aşağıdaki bilgilerden hangisi yaşama ve sağlık hakkı ile ilgili değildir?

- A) Tüm hak ve özgürlüklerin temelini oluşturur.
B) İslam bu hakkın çiğnenmesini büyük günah sayar.
C) Milli Eğitim Temel Kanunu ile güvence altına alınmıştır.
D) Zararlı alışkanlıklar bu hakkın bir gereği olarak yasaklanmıştır.

16. İslam tarihinde Hz. Ömer en çok hangi özelliğiyle bilinmektedir?

- A) Sabrı B) Adaleti
C) İlimi D) Çalışkanlığı

3. OTURUM

17. Peygamberimiz için ücretinin, alın teri kurumadan verilmesini istemiştir. **Bu durum temel hak ve özgürlüklerden hangisine örnek oluşturur?**

A) Sağlık hakkı B) Eğitim hakkı
C) İbadet hakkı D) Ekonomik hak

18. Bir fikre körü körüne bağlanıp başka görüşlere düşmanlık beslemeye - - - adı verilir.

Cümlede boş bırakılan yere hangisinin getirilmesi uygun olur?

A) taassup B) cahillik
C) ilkelik D) bilimsellik

19. Hz. Ömer zamanında devlet gelirlerinin adil bir şekilde dağıtılması için aşağıdakilerden hangisi kurulmuştur?

A) Tımar sistemi B) Divan teşkilatı
C) Darüşşifa D) Darülkurra

20. Önceleri genel okuma-yazma öğretimi veren kurumlar görevini üstlenirken, sonraları çocuklara medrese öncesi eğitim veren ilk mektepler konumunu almıştır.

İşlevi hakkında bilgi verilen kurum aşağıdakilerden hangisidir?

A) Beytül-Hikme B) Kütüphaneler
C) Suffe D) Daru-l Aceze

(116) DİN KÜL. AHL. BİL. – 6

1. Aşağıdaki ayet ve hadislerden hangisi konusu bakımından diğerlerinden farklıdır?

A) "Yakınları ile ilgisini kesen kimse cennete giremez." (Hadis)
B) "Akrabalık haklarına riayetsizlikten sakının..." (Nisa suresi, 1. ayet)
C) "Allah'a ve ahiret gününe inanan kişi akrabasını görüp gözetsin." (Hadis)
D) "Onlara, "Allah'ın indirdiğine uyun" denildiğinde, "Hayır, biz atalarımızdan gördüğümüze uyarız" dediler." (Lokmân suresi, 21. ayet)

2. Aşağıdaki bilgilerden hangisi yanlıştır?

A) Aile toplumun en küçük ve en önemli kurumudur.
B) İslam'da neslin devamı ve korunması için evlilik esastır.
C) Dinlerde evliliğin amacı toplumda tek düzen oluşturmaktır.
D) Hinduizm'de evlilik eşler arasında ölüme kadar süren bir anlaşmadır.

3. "Nikâh benim sünnetimdir."

Bu hadisten aşağıdakilerden hangisi çıkarılabilir?

A) İslam evliliği teşvik eder.
B) Evlilikte ahlak güzelliği esastır.
C) Evlenen dinini tamamlamış olur.
D) Eşler birbirlerine saygılı olmalıdır.

4. "Dikkat ediniz, sizin kadınlarınız üzerinde, kadınlarınızın da sizin üzerinizde hakları vardır."

Bu hadis aşağıdaki konulardan hangisine dikkat çekmektedir?

A) Anne baba haklarına
B) Evlilikte sevgi ve saygının önemine
C) Özel yaşamın gizliliğine
D) Eşlerin hak ve sorumluluklarına

5. Evlilik ve kan bağına dayanan; anne, baba ve çocuklardan oluşan en küçük sosyal gruptur.

Tanımlanan kavram aşağıdakilerden hangisidir?

A) Aile B) Akraba
C) Nesil D) Toplum

6. Aşağıdakilerden hangisi "ailenin ve neslin korunması" için İslam'ın aldığı önlemlerdendir?

A) Yalancılığın hoş karşılanmaması
B) Ana babaya iyi davranılması
C) Evlere izinsiz girilmemesi
D) Zinanın haram kılınması

7. Ülkemizde yaşayan Müslümanlara din hizmetleri vermekle görevli olan kamu kuruluşu aşağıdakilerden hangisidir?

A) Din İşleri Yüksek Kurulu
B) Diyanet İşleri Başkanlığı
C) Vakıflar Genel Müdürlüğü
D) Din Öğretimi Genel Müdürlüğü

8. Aşağıdakilerden hangisi Din İşleri Yüksek Kurulu'nun görevlerinden biri değildir?

A) Dini konularda araştırmalar yapmak
B) Din şurası düzenlenmesi ile ilgili çalışmalarını yürütmek
C) Yurt içinde ve yurt dışında dini faaliyetleri değerlendirmek
D) Mushaf'ın ve Kur'an metninin basım ve yayımını sağlamak

9. Diyanet İşleri Başkanlığı'nın kuruluş tarihi aşağıdakilerden hangisidir?

A) 1920 B) 1923
C) 1924 D) 1925

10. Türkiye Cumhuriyeti'nin ilk Diyanet İşleri Başkanı aşağıdakilerden hangisidir?

A) Börekçizade Mehmet Rifat
B) Ömer Nasuhi Bilmen
C) Ahmet Hamdi Akseki
D) Şerafettin Yaltkaya

11. • "İçinizden güçlü yeten evlensin. Çünkü iffeti ve namusu korumanın etkili yolu evliliğindir."
• "Nikâh benim sünnetimdir..."
• "Allah katında en sevimsiz helal boşanmadır."

Bu hadislerden aşağıdakilerden hangisi çıkarılamaz?

A) İslam dini evliliği teşvik etmiştir.
B) Nikâh, topluma ilan edilerek yapılmalıdır.
C) Boşanma yasaklanmamakla birlikte hoş karşılanmamıştır.
D) İffet ve namusu korumanın etkili yolu evlilik olarak gösterilmiştir.

12. Hz. Peygamber'in kızlarının en küçüğüdür. Kendisine "beyaz, parlak ve aydın yüzlü kadın" anlamına gelen "Zehra" denilmiştir. Ayrıca "namuslu kadın anlamına gelen "Betül" de denilmektedir. Sağlık ve sosyal yardım alanındaki hizmetleriyle İslam kültüründe tanınmıştır.

Bilgileri verilen kişi Peygamber (sav.)'in hangi kızıdır?

A) Hz. Ümmügülüm
B) Hz. Zeynep
C) Hz. Rukiyye
D) Hz. Fatma

3. OTURUM

13. Tarık, imam-hatip lisesinde okuyan sesi güzel bir öğrencidir. Çeşitli ses, müzik ve şan eğitimleri alıp kendisini geliştirerek bu yeteneğini kullanacağı bir meslekte görev almak istemektedir. **Buna göre Tarık için aşağıdaki mesleklerden hangisi daha uygun olur?**

A) Müezzin B) Vaiz
C) İmam D) Müftü

14. Cami ve mescitler ile diğer mekânlarda her türlü vasıttan yararlanarak insanları dini konularda bilgilendirici ve doğru yolu gösterici nitelikte konuşmalar yapar. Genellikle Cuma ve bayram namazı öncesi ve haftanın belli günlerinde halkı aydınlatıcı bilgiler verir. **Görev alanı verilen din görevlisi aşağıdakilerden hangisidir?**

A) Müftü B) Vaiz
C) İmam D) Müezzin

15. **İslam ve estetik arasındaki ilişki düşünüldüğünde aşağıdakilerden hangi sonuç çıkarılamaz?**

A) Dinimizin temizliğe önem vermesi; hamam, şadırvan gibi eserleri ortaya çıkarmıştır.
B) Su içirmenin sevap olması; sebil ve çeşmelerin inşa edilmesine sebep olmuştur.
C) Cemaatle namaz kılmanın teşvik edilmesi, camilerin yapılmasına sebep olmuştur.
D) Dinimizin güzel sözü teşvik etmesiyle Arap dilinin ve edebiyatının önemi artmıştır.

16. "Allah her şeyi güzel yaratmıştır. Siz de her şeyi güzel yapın."

Hz. Peygamber'in bu sözü aşağıdakilerden hangisine daha çok değinmektedir?

A) Sözde güzellik
B) İş ve üründe güzellik
C) Davranışta güzellik
D) Fiziki yapıda güzellik

17. **Aşağıdaki sanat ve sanatkar eşleştirmelerden hangisi yanlıştır?**

A) Hüsnühat- Hattat
B) Tezhip- Müzehhip
C) Minyatür- Heykeltıraş
D) Nakış- Nakkaş

18. İslam medeniyetinde ortaya çıkan önemli sanat dallarından biri olup altın tozu ve boya kullanılarak yapılan süsleme sanatıdır. Bu sanatta sayfa kenarları, satır aralarındaki boşluklar, cümle ve ayet sonları renkli ve yaldızlı çizgilerle süslenir. **Bilgisi verilen sanat dalı aşağıdakilerden hangisidir?**

A) Tezhip B) Hüsnühat
C) Minyatür D) Ebru

19. **Aşağıdaki eserlerden hangisi Mimar Sinan'a aittir?**

A) Sultan Ahmet Camii
B) İstanbul Şehzade (Mehmet) Camii
C) Bursa Ulu Camii
D) Zağnos Paşa Camii

20. **İslam tarihinde yapılan ilk mescit aşağıdakilerden hangisidir?**

A) Mescid-i Nebi B) Mescid-i Aksa
C) Kuba Mescidi D) Dırar Mescidi

(122) FELSEFE – 2

1. **Aşağıdakilerden hangisi "ahlaki eylemin amacı nedir?" sorusuna verilmiş cevaplardan biri değildir?**

A) Mutluluk B) Fayda
C) Kötülük D) Ödev

2. Birey karar verirken tamamen özgürdür. İyi, kötü, değerli, değersiz arasındaki seçimi kendi özgür iradesiyle yapar. **Yukarıda özgürlük ile ilgili yaklaşımlardan hangisi açıklanmıştır?**

A) Oto determinizm
B) Fatalizm
C) Determinizm
D) İndeterminizm

3. **Aşağıdakilerden hangisi ahlak felsefesinin temel kavramları arasında yer alır?**

A) Sorumluluk B) Egemenlik
C) Kutsal D) Tanrı

4. **Yaşamın amacının en yüksek hazza ulaşmak olduğunu savunan görüş aşağıdakilerden hangisidir?**

A) Utilitarizm B) Hedonizm
C) Anarşizm D) Egoizm

5. • Ahlak yasasına uygun olarak verilmiş kararlardır.
• Ahlaki karara uygun olarak gerçekleştirilen eylemlerdir.

Tanımlanan bu kavramlar aşağıdakilerin hangisinde sırasıyla verilmiştir?

A) Ahlaki karar – Ahlak yasası
B) Sorumluluk – Ahlaki eylem
C) Ahlaki karar – Ahlaki eylem
D) Ahlaki karar – Özgürlük

6. **Aşağıdakilerden hangisi devlet yönetimi biçimlerinden değildir?**

A) Demokrasi B) Meşruiyet
C) Aristokrasi D) Monarşi

7. Mevlana'ya göre gelip geçici zevkleri yenmenin ve Tanrı'yla bütünleşmenin yolu "aşk"tır. O halde evrensel ahlak yasasının temeli de aşk ya da sevgidir. Bu sevgi ve aşk, insanın davranışlarında uyacağı ahlak yasasını gösterir.

Aşağıdaki yargılardan hangisi Mevlana'nın bu görüşlerine uygundur?

A) Bir eylem iyi ideasına uygunsa iyi, değilse kötüdür.
B) Haz veren eylemler iyi, vermeyenler kötüdür.
C) Fayda sağlayan eylemler iyi, sağlamayanlar kötüdür.
D) Yaratılmış her varlığı sevmek iyi, sevmemek kötüdür.

8. Platon'a göre devleti ortaya çıkaran, insanın ihtiyaçlarını tek başına karşılayamaması, gereksinimlerini karşılayabilmek için başkalarının yardımına muhtaç olması gibi doğal bir nedendir.

Platon'un bu görüşüne göre iktidarın kaynağı aşağıdakilerden hangisidir?

A) Tanrı
B) Gelenekler
C) Hukuk kuralları
D) İnsanın doğal yapısı

3. OTURUM

9. Aşağıdakilerden hangisi siyaset felsefesinin temel soruları arasında yer alır?

- A) İnsanın bu evrendeki yeri ve değeri nedir?
- B) Egemenliğin kullanılış biçimleri nelerdir?
- C) Tanrı var mıdır?
- D) Güzel nedir?

10. Aşağıdakilerden hangisi ideal düzenin özgürlükle kurulabileceğini savunan görüşe uygun bir yargıdır?

- A) İdeal bir toplum düzeni kurulamaz.
- B) Özgürlük üretim araçlarının ortak mülkiyeti ile sağlanabilir.
- C) Bireysel özgürlüklerin önündeki engeller kaldırılmalıdır.
- D) İnsanlar arasında mutlak eşitlik sağlanmalıdır.

11. Aşağıdakilerden hangisi estetiğin sorduğu temel sorulardan biridir?

- A) Yönetim ne demektir?
- B) Ahlaki eylemin bir amacı var mıdır?
- C) Bireyin temel hakları nelerdir?
- D) Ortak bir güzellik anlayışı var mıdır?

12. I. Yeni Dünya
II. İdeal Devlet
III. Erdemli Toplum

Yukarıdakilerden hangileri istenilen ütopyalar arasında yer alır?

- A) I ve II.
- B) I ve III.
- C) II ve III.
- D) I, II ve III.

13. Sofistlerin ideal düzen konusundaki temel görüşleri aşağıdakilerin hangisinde verilmiştir?

- A) İdeal düzen adaletin sağlanmasıyla kurulabilir.
- B) İdeal bir toplum düzeninin kurulması mümkün değildir.
- C) İdeal toplum düzeninin kurulması özgürlüğün sağlanmasıyla mümkündür.
- D) İdeal düzen insanlar arasında tam bir eşitliğin sağlandığı düzendir.

14. Sosyalizme göre ideal düzeni belirleyen temel ölçüt aşağıdakilerden hangisidir?

- A) Eşitlik
- B) Ütopya
- C) Özgürlük
- D) Karmaşa

15. Aşağıdakilerden hangisi sanatı taklit olarak gören yaklaşımın görüşleri arasında yer alır?

- A) Sanat, insanı gündelik kaygılardan uzaklaştırır.
- B) Sanatçı açısından yaratma, her zaman biriciktir.
- C) Sanat eseri, sanatçının doğayı taklit etmesiyle oluşur.
- D) Sanat, sanatçının yetenek ve hahal gücünü dışa vurmasıdır.

16. Meydana gelen her şey, mantıken onu meydana getiren bir varlığa muhtaçtır. Evren de zaman içinde, sonradan meydana geldiğine ve hiçbir şey yoktan var olamayacağına göre, onu meydana getiren bir Tanrı vardır.

Yukarıda Tanrı'nın varlığına ilişkin kanıtlardan hangisi açıklanmıştır?

- A) Kozmolojik kanıt
- B) Ereklilik kanıtı
- C) Ahlaki kanıt
- D) Ontolojik kanıt

17. Din felsefesinin temel amacı aşağıdakilerden hangisidir?

- A) Tanrı'nın varlığını kanıtlamak
- B) Belli bir dinin akılsal savunusunu yapmak
- C) İnananların inançlarını güçlendirmek
- D) Din olgusunu akla dayanarak açıklamaya çalışmak

18. Aşağıdaki görüşlerden hangisi Tanrı'nın varlığının veya yokluğunun bilinemeyeceğini savunur?

- A) Bilinemezlik
- B) Tüm Tanrıçılık
- C) Yaratancılık
- D) Tanrıçılık

19. Aşağıdakilerden hangisi estetik yargıların özelliklerinden değildir?

- A) Kültürel özelliklerden etkilenmezler.
- B) Zaman içinde değişikliğe uğrayabilirler.
- C) Kişinin duygularına bağlıdır.
- D) Kişiden kişiye değişebilirler.

20. Tanrı'nın varlığını ve buyruklarını dolaylı ve dolaysız olarak peygamberler aracılığıyla insanlara duyurmasına denir.

Verilen tanım aşağıdaki kavramlardan hangisine aittir?

- A) İman
- B) Vahiy
- C) Kutsal
- D) İbadet

(124) SEÇMELİ FELSEFE – 2

1. Oto determinizme göre insan, aklını kullanarak ve bilgi birikimini artırarak özgürleşebilir. Dolayısıyla özgürlüğün doğuştan getirildiği görüşüne karşı çıkar. Bu görüş, ahlaki eylemin kaynağını kişiliğe dayandığından özgürlüğe de yer vermektedir.

Buna göre aşağıdaki yargılardan hangisi oto determinizme ters düşer?

- A) İnsan özgür olabilir.
- B) Özgürlük kişinin çabasına bağlıdır.
- C) Her insan özgürlüğe sahip olarak doğar.
- D) İnsanın bilgisi arttıkça, özgürlüğü de artar.

2. Erdem, insan varlığına gerçek anlamını veren ahlaki niteliklerin bir toplamıdır. Ahlakın övdüğü, yapılması bireyden beklenen değerlerdir.

Bu tanıma göre aşağıdakilerden hangisi bir erdem değildir?

- A) Kötülük
- B) Dürüstlük
- C) Cesaret
- D) Alçakgönüllülük

3. İyi niyete dayanan ve ödev duygusundan kaynaklanan her eylemin ahlaki olduğunu savunan filozof aşağıdakilerden hangisidir?

- A) Kant
- B) Epikuros
- C) Bergson
- D) J.Paul Sartre

4. Felsefenin ahlaki konu değil alan dalını ifade eden kavram aşağıdakilerden hangisidir?

- A) Estetik
- B) Etik
- C) Vicdan
- D) İyi

5. I. Evrensel ahlak yasası var mıdır?
II. Ahlaki eylemin amacı var mıdır?
III. İnsan ahlaki eylemde bulunurken özgür müdür?

Yukarıdakilerden hangileri ahlak felsefesinin temel soruları arasında yer alır?

- A) I ve II.
- B) I ve III.
- C) II ve III.
- D) I, II ve III.

3. OTURUM

6. • İyi ideası, iyiliğin özünü oluşturur.
• Bir eylem iyi ideasına uygunsa iyi, değilse kötüdür.

Bu ahlak görüşünü savunan filozof aşağıdakilerden hangisidir?

- A) Platon B) J. P. Sartre
C) Husserl D) Aristoteles

7. Ahlaksal egoizme göre, yaşamda ilk önce gelen ve her şeyden değerli olan şey bireyin kendi mutluluğu ve başarısıdır. Bütün insanlar kendi çıkarlarını gerçekleştirecek biçimde davranmak zorundadır. İyi ise bireyin, arzu ve ihtiyaçlarını karşılaması ve hedeflerini gerçekleştirmesi sonucu oluşur.

Bu parçadan aşağıdakilerin hangisine ulaşılabilir?

- A) En yüce değer başkalarına iyilik yapmaktır.
B) Ahlakta egemen olan şey insanın kendi çıkarıdır.
C) İyi tüm insanların ihtiyaçlarının karşılanmasıyla oluşur.
D) İnsan başkalarını mutlu ettiği ölçüde mutlu olur.

8. **Aşağıdakilerden hangisi evrensel ahlak yasasını tasavvuf düşüncesiyle temellendiren düşünürler arasında yer almaz?**

- A) Mevlâna
B) Sokrates
C) Yunus Emre
D) Hacı Bektaş Veli

9. **Aşağıdakilerden hangisi bürokrasiye yöneltilen eleştirilerden biridir?**

- A) Mevkilere göre verilmiş sorumluluğun bulunması
B) İş bölümüyle oluşan görev dağılımının olması
C) Yasal kurallara ve yaptırımlara dayanması
D) Araç olmaktan çıkıp siyasi bir güç haline gelmesi

10. "Belirli bir toplumda, bireyler arasındaki ilişkileri ve toplumsal yaşamı düzenleyen, devletin yaptırım gücüyle uyulması zorunlu hale getirilen kurallar bütünüdür."

Yukarıda siyaset felsefesinin hangi temel kavramı tanımlanmıştır?

- A) Meşruiyet B) Devlet
C) Hukuk D) Hak

11. **Aşağıdakilerin hangisinde istenmeyen ütopyalar birlikte verilmiştir?**

- A) Yeni Dünya – 1984
B) 1984 - Erdemli Toplum
C) Erdemli Toplum – Yeni Dünya
D) İdeal Devlet – Güneş Ülkesi

12. **Aşağıdakilerden hangisi sanatı oyun olarak kabul eden yaklaşımın temel görüşleri arasında yer alır?**

- A) Gerçek sanatçı Tanrı'dır.
B) Oyun ile sanat arasında benzerlikler vardır.
C) Sanat, sanatçının nesnelere taklit etmesiyle oluşur.
D) Sanatı ortaya çıkaran, sanatçının yaratıcı gücüdür.

13. I. Otoritenin kaynağı yazılı hukuk kurallarıdır.
II. Otoritenin kaynağı, o toplumdaki gelenek ve yerleşik inançlardır.

Yukarıdaki açıklamalar sırasıyla hangi otorite türlerine aittir?

- A) Karizmatik - Demokratik
B) Demokratik - Karizmatik
C) Demokratik - Geleneksel
D) Geleneksel - Karizmatik

14. I. Adalet
II. Eşitlik
III. Özgürlük

Yukarıdakilerden hangileri ideal düzeni belirleyen ölçütler arasında yer alır?

- A) I ve II. B) I ve III.
C) II ve III. D) I,II ve III.

15. Öznenin, estetik nesne ile kurduğu ilişki sonucu, ulaştığı anlamlardan dolayı elde ettiği hoşlanma duygusudur.

Yukarıda estetiğin temel kavramlarından hangisi tanımlanmıştır?

- A) Estetik haz B) Estetik nesne
C) Estetik özne D) Estetik tavır

16. **Aşağıdakilerden hangisi din felsefesinin temel kavramlarından değildir?**

- A) İnanç B) İbadet
C) Kutsal D) Hukuk

17. **Aşağıdakilerden hangisi ortak estetik yargıların varlığını reddeden düşünürlerdendir?**

- A) Hegel B) Croce
C) Platon D) Kant

18. Tanrı'nın varlığını yine Tanrı kavramından yola çıkarak kanıtlamaya çalışmaktadır. Orta Çağ'da Anselmus, Yeni Çağ'da Descartes tarafından savunulmuştur.

Yukarıda Tanrı'nın varlığına inanan düşünürlerin ileri sürdüğü hangi kanıt açıklanmıştır?

- A) Ahlaki B) Kozmolojik
C) Ontolojik D) Ereklilik

19. **Estetik yargılarla ilgili olarak aşağıdakilerden hangisi söylenemez?**

- A) Öznel yargılardır.
B) Kültürden etkilenirler.
C) Zamanla değişebilirler.
D) "Doğru" ya da "yanlış" şeklinde yapılan değerlendirmelerdir.

20. **Aşağıdakilerden hangisi din felsefesinin cevap aradığı sorular arasında yer almaz?**

- A) Tanrı var mıdır?
B) Ölüm bir son mudur?
C) Meşruiyetin ölçütü nedir?
D) Tanrı için midir, yoksa aşkın midir?

(133) TARİH – 3

1. **Osman Bey, 1281 yılında aşağıdakilerden hangisinin ölümü sonrasında Kayı boyunun başına geçmiştir?**

- A) Orhan Bey
B) Ertuğrul Gazi
C) Şeyh Edebali
D) III. Alaeddin Keykubat

2. **Osmanlı Devleti'ne katılan ilk beylik, aşağıdakilerden hangisidir?**

- A) Germiyanogulları
B) Karamanogulları
C) Candarogulları
D) Karesiogulları

3. **Aşağıdakilerden hangisi ilk Osmanlı - Bizans savaşı olma özelliğini taşır?**

- A) Koyunhisar B) Sırpsındığı
C) Maltepe D) Çirmen

3. OTURUM

4. Sazlıdere Savaşı'ndan sonra Osmanlı Devleti'ne başkent olan şehir, aşağıdakilerden hangisidir?

- A) Bilecik B) Bursa
C) Edirne D) İstanbul

5. Şehit olan ilk Osmanlı padişahı, aşağıdakilerden hangisidir?

- A) I. Murat B) I. Selim
C) I. Ahmet D) II. Osman

6. Aşağıdakilerden hangisi, Yıldırım Bayezit Dönemi'nde Osmanlı topraklarına katılan Anadolu beyliklerinden biri değildir?

- A) Aydınoğulları Beyliği
B) Hamitoğulları Beyliği
C) Ramazanoğulları Beyliği
D) Saruhanlı Beyliği

7. Bağdat hükümdarı Ahmet Celayir ile birlikte Timur'a karşı giriştiği mücadeleyi kaybedince Osmanlı hükümdarı Yıldırım Bayezit'e sığınan Kara Yusuf Bey, aşağıdaki hangi devletin hükümdarıdır?

- A) Harzemşahlar B) Karakoyunlu
C) Akkoyunlu D) Memlük

8. Osmanlı Devleti'nin Kuruluş Dönemi'nde meydana gelen aşağıdaki savaşlardan hangisi Haçlılarla yapılmamıştır?

- A) I. Kosova B) Niğbolu
C) Ankara D) Varna

9. Aşağıdakilerden hangisi, Osmanlı Devleti'nin mali ve idari işlerinin yürütülmesinden sorumlu olan sınıftır?

- A) İlimiye B) Seyfiye
C) Devşirme D) Kalemîye

10. Tımar sisteminin bozulması, aşağıdaki alanların hangisi üzerinde herhangi bir olumsuz etki yapmamıştır?

- A) Dinî B) Siyasi
C) Askerî D) Ekonomik

11. Aşağıdaki gelişmelerden hangisini, "Coğrafi keşifleri hızlandırmıştır." iddiasında öncelikli olarak kullanamayız?

- A) Coğrafya bilgisinin gelişmesini
B) Gemicilik sanatının ilerlemesini
C) Modern matbaanın kullanılmasını
D) Pusulanın daha hassas hâle getirilmesini

12. XVI. yüzyıl Avrupasında doğan ve gelişen hümanizm akımı, aşağıdakilerden hangisine karşıdır?

- A) Ticari faaliyetlere
B) Evrensel değerlere
C) Bilimsel çalışmalara
D) Skolastik düşünceye

13. Osmanlı Devleti'nin Duraklama Dönemi'nde ülkede bozulan düzeni, aşağıdaki Osmanlı padişahlarından hangisi, kuvvete başvurarak yeniden kurmaya çalışmıştır?

- A) III. Murat B) IV. Murat
C) II. Osman D) I. Süleyman

14. • Nasuh Paşa Antlaşması
• Amasya Antlaşması
• Serav Antlaşması

Verilen antlaşmaların ortak özelliği, aşağıdakilerden hangisidir?

- A) İran ile imzalanmış olmaları
B) Haçlı Seferleri'ni bitirmeleri
C) Osmanlı'nın batı sınırını belirlemeleri
D) Kuruluş Dönemi siyasi olayları olmaları

15. Aşağıdaki görevlilerden hangisi, Osmanlı toprak yönetimiyle ilişkilendirilebilir?

- A) Vakanüvis B) Sipahi
C) Serasker D) Levent

16. Aşağıdakilerden hangisi ilmiye sınıfının özelliklerinden değildir?

- A) Yargılama yaparlar.
B) Arapça bilirler.
C) Müslümandırlar.
D) Askerî eğitim alırlar.

17. Osmanlı Devleti'nin en önemli sorununun gelir – gider dengesizliği olduğunu düşünerek ilk kez bütçe çalışması yapan devlet adamı, aşağıdakilerden hangisidir?

- A) Merzifonlu Kara Mustafa Paşa
B) Köprülü Fazıl Ahmet Paşa
C) Köprülü Mehmet Paşa
D) Tarhuncu Ahmet Paşa

18. Aşağıdakilerden hangisi ilk Osmanlı – Rus antlaşmasıdır?

- A) Bucaş Antlaşması
B) Çehrin Antlaşması
C) Karlofça Antlaşması
D) Zıttorok Antlaşması

19. "Akçe" adı verilen ilk Osmanlı parası, aşağıdaki hangi padişah döneminde basılmıştır?

- A) Osman Bey B) Orhan Bey
C) I. Bayezit D) I. Murat

20. Aşağıdaki İstanbul camilerinden hangisi Avrupalılarca "Mavi Cami" olarak adlandırılmaktadır?

- A) Dolmabahçe Camisi
B) Süleymaniye Camisi
C) Sultan Ahmet Camisi
D) Mihrişah Valide Sultan Camisi

(134) TARİH – 4

1. Avrupa devletlerinin 18. yüzyılda devletler arası politikalarında benimseyip uyguladıkları "amaca ulaşmak için her türlü araca başvurma için uygun olduğu" anlayış tarzı, aşağıdakilerden hangisidir?

- A) Sosyalizm B) Liberalizm
C) Makyavelizm D) Panславizm

2. 18. yüzyılda İngiltere, aşağıdaki devletlerden hangisine karşı Avrupa hürriyetinin savunucusu olmuştur?

- A) Almanya B) İspanya
C) Fransa D) Hollanda

3. OTURUM

3. İran'ın Kafkasya'daki toprakları, aşağıdaki hangi antlaşmayla Rusya ve Osmanlı devletleri arasında paylaşılmıştır?
- A) Kerden Antlaşması
B) İstanbul Antlaşması
C) Pasarofça Antlaşması
D) Ahmet Paşa Antlaşması
4. Osmanlı Devleti'ndeki azınlık ayaklanmalarının çıkmasında, Avrupa'da yaşanan aşağıdaki gelişmelerden hangisi etkili olmuştur?
- A) Rönesans hareketleri
B) Reform hareketleri
C) Sanayi İnkılabı
D) Fransız İhtilali
5. Kasrışirin Antlaşması'nın şartlarını içeren ve son Osmanlı – İran antlaşması olma özelliğini taşıyan antlaşma, aşağıdakilerden hangisidir?
- A) Serav Antlaşması
B) Kerden Antlaşması
C) Ahmet Paşa Antlaşması
D) Nasuh Paşa Antlaşması
6. Aşağıdakilerden hangisi III. Selim Dönemi gelişmelerinden biri değildir?
- A) Önemli Avrupa başkentlerinde daimî elçiliklerin açılması
B) Sağlık alanında ilk kez çiçek aşısının uygulanması
C) Rusya ile Yaş Antlaşması'nın imzalanması
D) Nizamıcedit ordusunun kurulması
7. Osmanlılar, 18. yüzyılın ilk çeyreğinde imzaladığı aşağıdaki hangi antlaşmayla Avrupa'nın askerî üstünlüğünü kabul ederek "Batılılaşma Hareketleri" denilen ıslahatlara başlamak zorunda kalmışlardır?
- A) Pasarofça Antlaşması
B) Balta Limanı Antlaşması
C) Küçük Kaynarca Antlaşması
D) Londra Boğazlar Sözleşmesi
8. Sanayi İnkılabı ilk olarak hangi ülkede başlamıştır?
- A) İtalya
B) Almanya
C) İngiltere
D) Rusya
9. Aşağıdakilerden hangisi Osmanlı toprak yönetiminde uygulanan sistemlerden biri değildir?
- A) Malikâne
B) İltizam
C) Tımar
D) Esham
10. Avusturya, aşağıdaki hangi antlaşmadan sonra Osmanlı Devleti ile barışçıl bir politika izlemeye karar vermiştir?
- A) Zıstovi Antlaşması
B) Vasvar Antlaşması
C) Pasarofça Antlaşması
D) Küçük Kaynarca Antlaşması
11. Osmanlı egemenliğindeki Balkan milletlerini kendi çıkarları için bağımsızlık mücadelesine kışkırtan devlet, aşağıdakilerden hangisidir?
- A) Avusturya
B) İspanya
C) Fransa
D) Rusya
12. 1804 yılında Sırplar, aşağıdakilerden hangisinin önderliğinde ayaklanmışlardır?
- A) Kara Yorgi
B) Gürcü Nebi
C) I. Nikola
D) Picasso
13. Rusya, aşağıdaki hangi antlaşma ile hem Karadeniz'deki güvenliğini artırmış hem de Akdeniz'e donanmasını geçirme hakkını elde etmiştir?
- A) Versay Antlaşması
B) Belgrad Antlaşması
C) Karlofça Antlaşması
D) Hünkâr İskeleyi Antlaşması
14. Osmanlı Devleti'nde yaşayan gayrimüslimlere, aşağıdakilerden hangisiyle devlet memuru olma hakkı tanınmıştır?
- A) Senediittifak
B) Islahat Fermanı
C) Tanzimat Fermanı
D) İnsan ve Vatandaş Hakları Bildirisi
15. Osmanlı'nın "Meşrutiyet" yönetimine geçmesi için büyük çabalar sarf eden grup, aşağıdakilerden hangisidir?
- A) Hürriyet ve İtilafçılar
B) Müdafaa-i Hukukçular
C) Yeni Osmanlılar
D) Yeniçeriler
16. Osmanlılar, aşağıdaki topluluklardan hangisini "Milletisadika" olarak adlandırmışlardır?
- A) Arnavutları
B) Ermenileri
C) Rumları
D) Sırları
17. Osmanlı Devleti'nin ekonomisi, aşağıdaki hangi olaydan olumsuz etkilendiği için ilk kez İngiltere'den dış borç alınmıştır?
- A) Kırım Savaşı
B) 93 Harbi
C) Şark meselesi
D) Boğazlar sorununun ortaya çıkması
18. Mustafa Kemal'in tanınması ve Millî Mücadele'de önder olarak kabul edilmesinde, aşağıdakilerden hangisinin payı en çoktur?
- A) Hareket Ordusu ile Selanik'ten İstanbul'a gelerek 31 Mart İsyanı'nı bastırmasının
B) Muş'u ve Bitlis'i Rus işgalinden kurtarmasının
C) Vatan ve Hürriyet Cemiyetini kurmasının
D) Çanakkale Savaşı'ndaki başarılarının
19. "Milletler Cemiyeti adına bir ülkenin başka bir devlet tarafından yönetilmesine - - - yönetimi denir."
- Verilen bilginin doğru olabilmesi için boş bırakılan yere, aşağıdakilerden hangisi yazılmalıdır?
- A) Ortak
B) Manda
C) Özerk
D) Federal
20. I. Dünya Savaşı'nı bitiren antlaşmalar arasında, aşağıdakilerden hangisi yoktur?
- A) Atina Antlaşması
B) Nöyyi Antlaşması
C) Versay Antlaşması
D) Triyanon Antlaşması

(142) T.C. İNK. TAR. ATA. – 2

1. Devlet düzeninin laikleştirilmesi hususunda atılan en büyük adım, aşağıdakilerden hangisidir?

- A) Çok partili döneme geçilmesi
B) Cumhuriyetin ilan edilmesi
C) Halifeliğin kaldırılması
D) Türbelerin kapatılması

3. OTURUM

2. Türkiye'nin ilk muhalefet partisinin kapatılmasına neden olan olay aşağıdakilerden hangisidir?
- A) Şeyh Said İsyanı
B) Menemen Olayı
C) Halifelik kurumunun kapatılması
D) Mustafa Kemal'e suikast girişiminin de bulunulması
3. Aşağıdakilerden hangisi 3 Mart 1924 tarihinde yapılan inkılaplardan biri değildir?
- A) Saltanata son verilmesi
B) Halifeliğin kaldırılması
C) Medeni Kanunu'nun kabul edilmesi
D) Tekke ve zaviyelerin kapatılması
4. 23 Nisan 1920'de açılan Türkiye Büyük Millet Meclisinde her kesimden farklı görüş ve düşünceye sahip insanlar olmasına rağmen herhangi bir siyasi parti kurulamayışının nedeni, aşağıdakilerden hangisidir?
- A) Üyelerin tamamının Türklere oluşması
B) Kurtuluş Savaşı'nın devam ediyor olması
C) Kabine sisteminin benimsenmesi
D) Temsil Heyetinin feshedilmesi
5. Aşağıdaki ülkelerden hangisinin medeni kanunu, bir kurul tarafından Türkçeye çevrilerek yeniden düzenlenip "Türk Medeni Kanunu" olarak kabul edilmiştir?
- A) İngiltere
B) Fransa
C) İtalya
D) İsviçre
6. Aşağıdakilerden hangisi, eğitim ve öğretimde Latin harflerinin kullanılmasının sağladığı yararlar arasında sayılamaz?
- A) Okuryazar oranının artması
B) Okuma ve yazmanın kolaylaşması
C) Çok sayıda şiir kitabının basılması
D) Avrupa ile kültür alışverişinin hızlanması
7. Lozan Antlaşması'yla kazanılan kabotaj hakkı, aşağıdaki hangi anlamda gelmektedir?
- A) Kapitülasyonların kaldırılması
B) Demir yollarının devletleştirilmesi
C) Liman ve tersanelerin dış kaynaklarla inşa edilmesi
D) Türk denizlerinde gemi işletme hakkının Türklere bırakılması
8. Birinci Beş Yıllık Kalkınma Planının hazırlanması, Atatürk'ün hangi ilkesinin uygulandığının göstergesidir?
- A) Laiklik
B) Devletçilik
C) Milliyetçilik
D) Cumhuriyetçilik
9. Eğitim ve öğretimin birleştirilmesi aşağıdaki kanunlardan hangisi ile sağlanmıştır?
- A) Medeni Kanunu
B) Kabotaj Kanunu
C) Tevhid-i Tedrisat Kanunu
D) Takrir-i Sükûn Kanunu
10. İzmir İktisat Kongresi ile kabul edilen "Ulusal Ekonomi İlkesi", aşağıdakilerden hangisidir?
- A) Ekonomik bağımsızlığın her kesimce korunması
B) Ülkedeki yabancı işletmelerin sayısına artırılması
C) Ekonomik kalkınmanın yabancı sermaye ile sağlanması
D) Ham maddesi yurt dışından sağlanan fabrikaların kurulması
11. 4 Ekim 1926 yılında yürürlüğe giren Türk Medeni Kanunu ile kadınlara tanınan haklar arasında hangisi yer almaz?
- A) Evlenme ve boşanma hakkı
B) Resmi nikah hakkı
C) Mirasta ve tanıklıkta eşit olma hakkı
D) Seçme ve seçilme hakkı
12. • Ülkede millî birlik ve beraberliği gerçekleştiren,
• Kurtuluş Savaşı'nın zaferle sonuçlanmasını sağlayan,
• Türk milletine millî bilinç ve millî gurur aşılayan,
• Türk Tarih Kurumu ve Türk Dil Kurumunun kurulmasını sağlayarak millî kültürümüzün gelişmesine hizmet eden
- Atatürk ilkesi, aşağıdakilerden hangisidir?
- A) Cumhuriyetçilik
B) Milliyetçilik
C) Devletçilik
D) Laiklik
13. "Eğitimde fikri hür, vicdanı hür nesiller ancak - - - - ilkesinin uygulanması ile yetiştirilebilir."
- Verilen bilgi cümlesinin doğru olabilmesi için, aşağıdakilerden hangisiyle tamamlanmalıdır?
- A) Laiklik
B) Halkçılık
C) Milliyetçilik
D) Devletçilik
14. Aşağıdakilerden hangisi Türk devletçiliğinin özelliklerinden biri değildir?
- A) Temel amaç hızlı sanayileşmektir.
B) Özel sektöre karşı değildir.
C) Batıdan alınmış bir ekonomik modeldir.
D) Kamu yararına yönelik yatırımlar yapar.
15. Türkiye'nin aşağıdaki komşularından hangisiyle olan sınırı, diğerlerine göre daha sonra belirlenmiştir?
- A) Bulgaristan
B) Yunanistan
C) Gürcistan
D) Irak
16. Aşağıdaki devletlerden hangisi Balkan Antantı'na üye değildir?
- A) Arnavutluk
B) Yugoslavya
C) Yunanistan
D) Romanya
17. Türkiye, aşağıdaki devletlerden hangisiyle "Yabancı Okullar Sorunu" yaşamıştır?
- A) Rusya
B) Fransa
C) İngiltere
D) Yunanistan
18. II. Dünya Savaşı sırasında, İngiltere Başbakanı Winston Churchill ile daha savaşa girmemiş olan ABD Başkanı Franklin Roosevelt'in Atlas Okyanusu'nda bir İngiliz savaş gemisinde beş gün süren görüşmeleri neticesinde 14 Ağustos 1941'de yayımladıkları ortak bildiri, aşağıdakilerden hangisidir?
- A) Acheson Planı
B) Porter Doktrini
C) Atlantik Bildirisi
D) Litvinov Protokolü

3. OTURUM

19. Birleşmiş Milletler Teşkilatı'nın aşağıdaki organlarından hangisi, Milletler Cemiyetindeki manda rejimi yerine oluşturulmuştur?


- A) Vesayet Konseyi
B) Güvenlik Konseyi
C) Uluslararası Adalet Divanı
D) Ekonomik ve Sosyal Konsey

20. Türkiye'de "Kuzey Atlantik Paketi" olarak bilinen uluslararası kuruluşun İngilizce kısaltması, aşağıdakilerden hangisidir?

- A) OECD
B) NATO
C) UNICEF
D) UNESCO

(153) COĞRAFYA – 3

1.



Görselde verilen yüzey şeklinin oluştuğu yerde hangi kayaç türü yaygındır?

- A) Kalker
B) Tüf
C) Granit
D) Kumtaşı

2. • Yeryüzüne çıkan lavların katılaşması ile oluşur.
• Genellikle koyu renklidir.
• İnce tanelidir.

Yukarıda bazı özellikleri verilen kayaç grubu aşağıdakilerden hangisidir?

- A) Metamorfik kayaçlar
B) Dış püskürük kayaçlar
C) Organik tortul kayaçlar
D) Kimyasal tortul kayaçlar

3. Kalkerin mermere dönüşmesinde etkili olan faktörler aşağıdakilerden hangileridir?

- A) Aşınma ve erime
B) Erime ve soğuma
C) Sıcaklık ve basınç
D) Aşınma ve tortulanma

4. Yer kabuğunun derinlerine doğru inildikçe sıcaklık her 33 metrede yaklaşık 1 °C artar.

Buna göre yerin 165 metre derinlerinde hava sıcaklığı yüzeye göre kaç °C fazla olması beklenir?

- A) 3
B) 5
C) 7
D) 10

5. Aşağıdakilerden hangisi ülkemize yakın levhalardan biridir?

- A) Afrika Levhası
B) Pasifik Levhası
C) Filipinler Levhası
D) Avustralya Levhası

6. Aşağıdakilerden hangisi sıcak su kaynaklarının yaygın olduğu ülkelerden biri değildir?

- A) Türkiye
B) İzlanda
C) İsveç
D) Endonezya

7. • Aral Gölü
• Hazar Gölü
• Lut Gölü

Yukarıda verilen göller oluşumuna göre hangi grupta yer alır?

- A) Buzul gölleri
B) Karstik göller
C) Volkanik göller
D) Tektonik göller

8. Aşağıdaki akarsulardan hangisi düzenli rejime sahiptir?

- A) Ganj
B) İndus
C) Fırat
D) Amazon

9. Sıcak ve nemli iklim bölgelerinde görülen kimyasal ayrışmaya aşağıdakilerin hangisinde rastlanmaz?

- A) Savan ikliminde
B) Muson ikliminde
C) Tundra ikliminde
D) Ekvatorial iklimde

10. • Sert karasal iklimin nemli alanlarında yaygındır.
• İğne yapraklı ağaçlardan oluşur.
• Görüldükleri yerlerde yıllık yağış miktarı 500 mm civarındadır.

Yukarıda bazı özellikleri verilen ormanlar aşağıdakilerden hangisidir?

- A) Tayga Ormanları
B) Muson Ormanları
C) Ekvatorial Yağmur Ormanları
D) Orta Kuşağın Karışık Ormanları

11. Tarımsal nüfus yoğunluğu ile fizyolojik nüfus yoğunluğu birbirine yakın olan bir ülkede çalışan nüfus hangi sektörde daha çok istihdam edilmektedir?

- A) Tarım
B) Sanayi
C) İnşaat
D) Hizmet

12. Aşağıdaki olayların hangisinde göç nedeni doğal sebeplerden kaynaklanmaktadır?

- A) Hukuk fakültesini kazanan Ayşe'nin Ankara'ya yerleşmesi
B) Ülkesindeki savaş nedeniyle Suriyeli ailenin Türkiye'ye gelmesi
C) Halil Amcanın erozyon nedeniyle köyünden Tokat'a göç etmesi
D) Ankara'da bir fabrikada iş bulan Ferhat'ın kasabasından ayrılması

13. Aşağıdakilerden hangisi 1960'lı yılların başından itibaren Türklerin çalışmak için gittiği Avrupa ülkelerinden biri değildir?

- A) Fransa
B) Polonya
C) Avusturya
D) Hollanda

14. İlk zanaatkarların Neolitik Çağ'da ortaya çıktığının kanıtı aşağıdakilerden hangisidir?

- A) Mağaralardaki süslemeler
B) Takasla ticaretin başlaması
C) Bazı hayvanların evcilleştirilmesi
D) Seramikten kap kacakların yapılması

15. Ekonomik faaliyetler kaç ana gruba ayrılır?

- A) 3
B) 4
C) 5
D) 6

16. Türkiye 36° - 42° kuzey paralelleri arasında yer almaktadır.

Sadece bu bilgiden yararlanarak yurdumuzla ilgili aşağıdaki çıkarımlardan hangisi yapılamaz?

- A) Başlangıç Meridyeninin doğusunda
B) Yengeç Dönencesinin kuzeyindedir.
C) Ekvator, Türkiye'nin güneyindedir.
D) Güneyden kuzeye gidildikçe gölge boyu uzar.

17. Türkiye'de Paleozoikte başkalaşım uğrayarak sertleşmiş kütlelere ne denir?

- A) Tetis
B) Pangea
C) Levha
D) Masif

3. OTURUM

18.



Haritada verilen dağlardan hangisinin yeri yanlış gösterilmiştir?

- A) Koroğlu B) Kaz
C) Canik D) Mardin

19. Türkiye'de platoların şekillenmesinde etkili olan dış güç aşağıdakilerden hangisidir?

- A) Dalgalar B) Akarsular
C) Buzullar D) Rüzgarlar

20. Aşağıdakilerden hangisi Türkiye'de az yağış alan yerlerdendir?

- A) Iğdır Ovası
B) Yıldız Dağları
C) Batı Karadeniz
D) Mentеше yöresi

(154) COĞRAFYA – 4

1. Aşağıdakilerden hangisi ülkemizdeki endemik bitkilerdendir?

- A) Kayın B) İspir Meşesi
C) Fıstık Çamı D) Ladin

2. Çernezyom topraklar aşağıdaki yerlerden hangisinde yaygın olarak görülür?

- A) Bafra Ovası
B) Konya Ovası
C) Haymana Platosu
D) Erzurum-Kars Platosu

3. I. Tomruk
II. Reçine
III. İhlamur
IV. Telefon direği

Yukarıdakilerden hangileri asıl orman ürünlerindedir?

- A) I ve II B) I ve III
C) I ve IV D) III ve IV

4. • Dünya'da en geniş yayılış alanı Türkiye'dedir.
• Işığ seven, hızlı büyüyen bir çam türüdür.
• Akdeniz ve Ege Bölgeleri'nde geniş alanlar kaplar.

Yukarıda belirtilen özellikler hangi çam türüne aittir?

- A) Kızılcım B) Sarıçam
C) Karaçam D) Fıstık Çamı

5. Aşağıdaki akarsularımızın hangisinde rafting sporu yapılır?

- A) Çoruh B) Bakırçay
C) Sakarya D) Susurluk

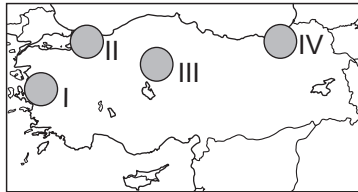
6. Aşağıdakilerden hangisi daha çok turistik amaçla kullanılan limanımızdır?

- A) İzmir Limanı
B) Mersin Limanı
C) Antalya Limanı
D) İskenderun Limanı

7. Aşağıdakilerden hangisi Türkiye'de nüfus ve yerleşmenin dağılımını etkileyen doğal faktörlerden biridir?

- A) Ulaşım B) Yeryüzü şekilleri
C) Ekonomi D) Göçler

8.



Haritada numaralandırılan yerlerin hangisinde dağınık yerleşme yaygındır?

- A) I B) II C) III D) IV

9. Birkaç mahallenin birleşmesi ile oluşan ve özellikle Batı Karadeniz'de yaygın olan kır yerleşmesi hangisidir?

- A) Divan B) Kom
C) Mezra D) Oba

10. Aşağıdakilerden hangisi kavşak noktaları ve işlek yollar üzerinde bulunan ulaşım şehirlerinden biridir?

- A) Sinop B) Kırklareli
C) Hakkâri D) Eskişehir

11. Aşağıdaki illerimizin hangisinde nüfus yoğunluğu daha yüksektir?

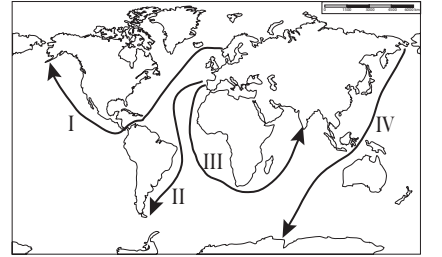
- A) Kocaeli B) Bursa
C) Erzurum D) Adana

12. I. Petrol
II. Baharat
III. Kağıt
IV. Radyo
V. Porselen

Verilenlerden hangileri Orta Çağ'da İpek Yolu ile Çin'den Avrupa'ya taşınan ürünlerdendir?

- A) Yalnız II B) I ve IV
C) II, III ve V D) I, II, III ve V

13.



Haritada numaralandırılarak verilen hatlardan hangisi İspanya ve Portekiz'in Ümit Burnu'nu kullanarak Hindistan'a ulaştığı rotayı göstermektedir?

- A) I B) II C) III D) IV

14. Bilgiyi geliştirerek doğru ve tam şekilde gelecek nesillere aktaran toplumların en önemli kazancı aşağıdakilerden hangisidir?

- A) Bilim ve teknolojiye hızlı ilerlemeleri
B) Çevre ve doğaya daha çok değer vermeleri
C) Gelenek ve göreneklerini devam ettirmeleri
D) Eğitim imkânlarını ülke geneline yaymaları

3. OTURUM

(158) COĞRAFYA – 8

15. • 1914 de hizmete girmiştir.
• ABD ve Fransa'nın işbirliğiyle yapılmıştır.
• Atlas ve Pasifik (Büyük) okyanusları birbirine bağlar.
Yukarıdaki bilgiler hangi su yoluna aittir?

- A) Kiel Kanalı
B) Panama Kanalı
C) Korint Kanalı
D) Süveyş Kanalı

16. **Aşağıdaki ülkelerin hangisinde kara yolu ağı daha gelişmiştir?**

- A) Brezilya B) Fransa
C) Bulgaristan D) Libya

17. **Aşağıdaki doğal afetlerden hangisinin oluşum süresi yıllar alabilir?**

- A) Heyelan B) Çiğ
C) Kuraklık D) Deprem

18. **Aşağıdakilerden hangisi erozyonun sonuçlarından değildir?**

- A) Ekolojik denge bozulur.
B) Tarımsal üretim azalır.
C) Açlık tehlikesi başlar.
D) Bitki çeşitliliği artar.

19.



Haritada numaralandırılarak verilen taralı alanların hangisinde sönmüş volkan dağları bulunur?

- A) I B) II C) III D) IV

20. **Aşağıdakilerden hangisi sel ve taşkın oluşumuna engel olur?**

- A) Hızlı kar erimesi
B) Bitki örtüsünün tahrip edilmesi
C) Toprağın suyu içine geçirmesi
D) Akarsu yataklarına yerleşilmesi

1. **1960'lı yıllardan sonra ülkemizde nüfus artış hızını düşürmeye yönelik politikalar uygulanmasının sebebi aşağıdakilerden hangisidir?**

- A) Ortalama insan ömrünün uzaması
B) Kişi başına düşen geliri azaltacağı düşüncesi
C) Sanayi öncelikli kalkınmanın hedeflenmesi
D) Kentlere yoğun göç hareketinin başlaması

2. **Türkiye nüfus politikalarının ikinci döneminin ana yönünü aşağıdakilerden hangisi belirlemiştir?**

- A) Ekonomik koşullar
B) Çevresel etkenler
C) Nüfus hareketleri
D) Doğal afetler

3.



Türkiye haritasında taranarak verilen yer hangi bölgesel kalkınma projesinin uygulandığı alandır?

- A) Yeşilirmak Havzası Gelişim Projesi
B) Güneydoğu Anadolu Projesi
C) Doğu Karadeniz Projesi
D) Doğu Anadolu Projesi

4. **Zonguldak, Bartın, Karabük Projesi kapsamında kalan bölgede hâkim olan ekonomik etkinlik aşağıdakilerden hangisidir?**

- A) Turizm ve balıkçılık
B) Tarım ve hayvancılık
C) Madencilik ve ormancılık
D) Demir-çelik sanayisi ve kömür işletmeleri

5. **Bir ülkenin uluslararası alanda izlediği siyasette aşağıdaki özelliklerinden hangisinin etkisi daha azdır?**

- A) Askeri gücünün
B) Ekonomik gücünün
C) Eğitim durumunun
D) Teknolojik seviyesinin

6. **Türkiye üç kıtanın birbirine yaklaştığı yerde bulunmakta, doğudan önemli petrol rezervlerine sahip Müslüman Orta Doğu ve Hazar havzası ile batıdan ise sanayileşmiş Avrupa arasında köprü konumundadır. Bunlara ek olarak Akdeniz, Ege ve Karadeniz'e sınırının bulunması İstanbul ve Çanakkale boğazlarına sahip olması ülkemizin - - - önemini daha da arttırmaktadır.**

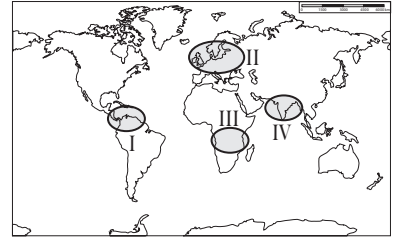
Metne göre boş bırakılan yere aşağıdakilerden hangisi gelmelidir?

- A) Turistik B) Askeri
C) Jeopolitik D) Transit

7. **Kuzey Kıbrıs Türk Cumhuriyeti bağımsızlığını hangi yıl ilan etmiştir?**

- A) 1914 B) 1960
C) 1974 D) 1983

8.



Haritada numaralandırılarak verilen yerlerin hangisinde insani gelişim endeksinde üst sıralarda yer alan ülkeler bulunmaktadır?

- A) I B) II C) III D) IV

9. **Aşağıdakilerden hangisi gelişmiş ülkelerin özelliklerinden biri değildir?**

- A) Nüfus artış hızları düşüktür.
B) Gelişmiş ticari hayata sahiptir.
C) Ekonomileri tarımsal üretime dayanır.
D) Yüksek miktarda enerji kaynağı tüketirler.

10. **Aşağıdaki ülkelerden hangisi insani gelişim endeksinde alt sıralarda yer almaktadır?**

- A) Kenya B) Meksika
C) Norveç D) Rusya

3. OTURUM

11. I. Doktor başına düşen hasta sayısı azdır.
II. Enerji tüketimi azdır.
III. Değeri yüksek ürünler ithal ederler.
IV. Doğal nüfus artışı düşüktür.

Yukarıda verilenlerden hangileri gelişmiş ülkelere ait özelliklerdendir?

- A) I ve II. B) II ve III.
C) I ve III. D) I ve IV.

12. Aşağıdakilerden hangisi su kaynaklarının korunmasının ve bilinçli tüketilmesinin en önemli gerekçesidir?

- A) Sanayide tüketilmesi
B) Temizlikte kullanılması
C) Yaşam için vazgeçilmez olması
D) Ulaşımda yararlanılması

13. Aşağıdakilerden hangisi doğal kaynakları sayesinde gelişmiş ülkelerden biridir?

- A) Arjantin
B) Kolombiya
C) Türkmenistan
D) Güney Afrika Cumhuriyeti

14. Aşağıdakilerden hangisi Hazar Bölgesi petrol ve doğalgaz taşımacılığı için yapılması planlanan projelerdendir?

- A) Aytrau – Şamara Boru Hattı
B) Bakü – Tiflis – Ceyhan Boru Hattı
C) Tengiz – Novorossiysk Petrol Boru Hattı
D) Bakü – Tiflis – Erzurum – Ankara Doğalgaz Boru Hattı

15. Aşağıdakilerden hangisi uluslararası sıcak çatışmaya neden olan doğal unsurlardan biridir?

- A) Sınır sorunu
B) Bağımsızlık isteği
C) Su kaynaklarının paylaşımı
D) Önemli ulaşım yollarının kontrolü

16. Türkiye’de erozyon ve çölleşme tehlikesine karşı mücadele için kurulmuş örgüt hangisidir?

- A) TEMA Vakfı
B) ÇEKÜL Vakfı
C) DHK Derneği
D) Türkiye Çevre Vakfı

17. Japonya’da 169 ülkenin katılımı ile imzalanan iklim değişikliği riskleri ve alınacak önlemler konulu sözleşme hangisidir?

- A) Kyoto Sözleşmesi
B) CITES Sözleşmesi
C) RAMSAR Sözleşmesi
D) Barcelona Sözleşmesi

18. Aşağıdakilerden hangisi doğal mirasların korunması için yapılabilecek faaliyetlerden biri değildir?

- A) Çevre bilinci yerleştirilmesi
B) Turistik tesis sayısının artırılması
C) Avcılığın kontrol altına alınması
D) Doğal ortamın kirlenmesinin önlenmesi

19. Doğal mirasları hangi kuruluş belirler?

- A) UNESCO B) UNICEF
C) ICU D) WWF

20. Aşağıdakilerden hangisi sınırlı doğal kaynaklardan değildir?

- A) Kömür B) Rüzgâr
C) Petrol D) Bor

(163) MATEMATİK – 3

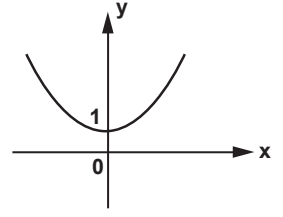
1. $5! + n \cdot 4! = 6!$ olduğuna göre n kaçtır?

- A) 12 B) 18 C) 24 D) 25

2. 2 elemanlı alt kümelerinin sayısı, 6 elemanlı alt kümelerinin sayısına eşit olan bir kümenin, 5 elemanlı alt kümelerinin sayısı kaçtır?

- A) 40 B) 48 C) 56 D) 60

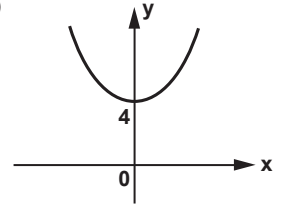
3.



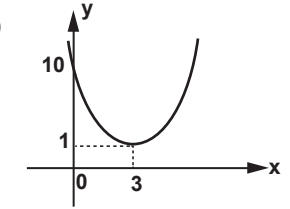
Yukarıda $f(x) = x^2 + 1$ fonksiyonunun grafiği veriliyor.

Buna göre $f(x + 3)$ fonksiyonunun grafiği aşağıdakilerden hangisidir?

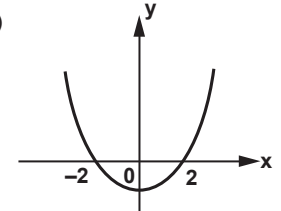
A)



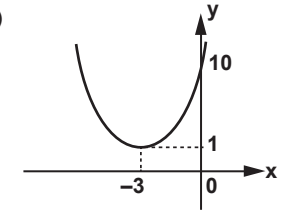
B)



C)



D)



4. Hilesiz bir zar ile düzgün bir madeni para birlikte atılıyor.

Zarın üst yüzüne gelen sayının 2’den büyük ve madeni paranın yazı gelme olasılığı nedir?

- A) $\frac{1}{3}$ B) $\frac{1}{4}$ C) $\frac{1}{6}$ D) $\frac{1}{12}$

3. OTURUM

5. R'den R'ye tanımlı aşağıda verilen fonksiyonlardan hangisi tek fonksiyondur?

- A) $g(x) = x^2 - x$
 B) $f(x) = x^3 + 2x$
 C) $h(x) = x^3 + 1$
 D) $k(x) = x^4 + 2x^2$

6. $f, g: \mathbb{R} \rightarrow \mathbb{R}$, $f(x) = x^2 + 3x - 1$ ve $g(x) = 3x - 5$ olduğuna göre $(f + g)(1)$ değeri kaçtır?

- A) 3 B) 1 C) -1 D) -3

7. $f, g: \mathbb{R} \rightarrow \mathbb{R}$, $g(x) = x + 2$ ve $(f \circ g)(x) = 3x + 5$ olduğuna göre $f(x)$ 'in kuralı aşağıdakilerden hangisidir?

- A) $3x - 1$ B) $3x - 2$
 C) $3x + 5$ D) $3x + 11$

8. $f: \mathbb{R} \rightarrow \mathbb{R}$ bire bir ve örten bir fonksiyondur.

$f(x + 5) = x - 1$ olduğuna göre $f^{-1}(3)$ kaçtır?

- A) 3 B) 5 C) 9 D) 11

9. Analitik düzlemde verilen $A(-4, -3)$ ve $B(2, 5)$ noktaları arasındaki uzaklık kaç birimdir?

- A) 10 B) 12
 C) $2\sqrt{2}$ D) $2\sqrt{10}$

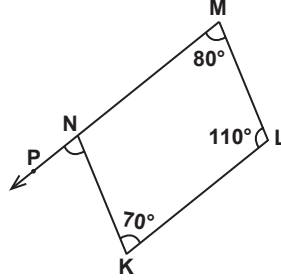
10. $A(2, -3)$ noktasından geçen ve eğimi $\frac{1}{2}$ olan doğrunun denklemi aşağıdakilerden hangisidir?

- A) $2x - 3y + 6 = 0$
 B) $x - 2y - 8 = 0$
 C) $2x - y + 8 = 0$
 D) $x + 2y + 6 = 0$

11. $ax + 7y + 4 = 0$ ve $2x + by + 1 = 0$ denklemleri ile verilen doğrular çakışık olduğuna göre $a \cdot b$ kaçtır?

- A) 7 B) 10 C) 11 D) 14

12.

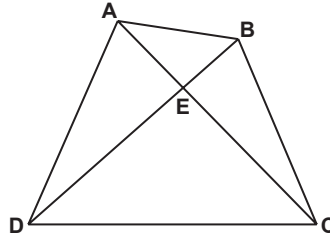


Şekilde P, N, M noktaları doğrusal, $m(\widehat{NML}) = 80^\circ$, $m(\widehat{MLK}) = 110^\circ$ ve $m(\widehat{LKN}) = 70^\circ$ dir.

Buna göre $m(\widehat{PNK})$ kaç derecedir?

- A) 80 B) 70 C) 60 D) 50

13.

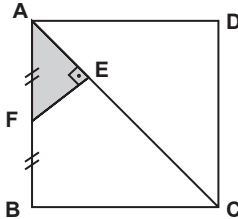


Şekildeki ABCD dörtgeninde $A(\widehat{AED}) = 12 \text{ cm}^2$, $A(\widehat{BEC}) = 8 \text{ cm}^2$ ve $A(\widehat{AEB}) = 6 \text{ cm}^2$ dir.

Buna göre $A(\widehat{EDC})$ kaç santimetrekaredir?

- A) 4 B) 9 C) 16 D) 18

14.

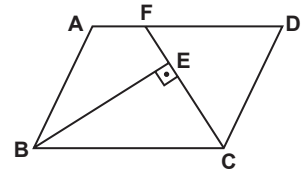


Şekildeki ABCD karesinde $[AC]$ köşegen, $|AF| = |FB|$, $[AC] \perp [FE]$ ve $A(\widehat{AEF}) = 10 \text{ cm}^2$ dir.

Buna göre $A(ABCD)$ kaç santimetrekaredir?

- A) 100 B) 120 C) 140 D) 160

15.



Şekildeki ABCD paralelkenarında F noktası $[AD]$ üzerinde, $[BE] \perp [FC]$, $|BE| = 5 \text{ cm}$ ve $|FC| = 6 \text{ cm}$ dir.

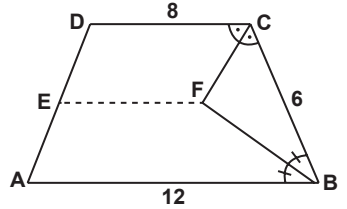
Buna göre $A(ABCD)$ kaç santimetrekaredir?

- A) 40 B) 30 C) 20 D) 10

16. Bir kenarının uzunluğu 10 cm olan bir eşkenar dörtgenin içindeki bir noktadan kenarlara çizilen dikmelerin uzunluklarının toplamı 18 cm olduğuna göre eşkenar dörtgenin alanı kaç santimetrekaredir?

- A) 90 B) 120 C) 150 D) 180

17.



Şekildeki ABCD yamuğunda

$[DC] \parallel [EF] \parallel [AB]$,

$m(\widehat{DCF}) = m(\widehat{FCB})$,

$m(\widehat{CBF}) = m(\widehat{FBA})$,

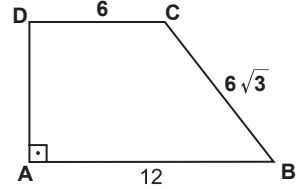
$|AB| = 12 \text{ cm}$, $|DC| = 8 \text{ cm}$

ve $|CB| = 6 \text{ cm}$ dir.

Buna göre $|EF|$ kaç santimetredir?

- A) 4 B) 5 C) 6 D) 7

18.



Şekildeki ABCD dik yamuğunda

$[DC] \parallel [AB]$, $[DA] \perp [AB]$,

$|AB| = 12 \text{ cm}$, $|BC| = 6\sqrt{3} \text{ cm}$ ve

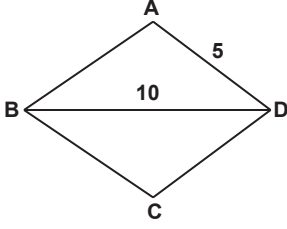
$|CD| = 6 \text{ cm}$ dir.

Buna göre $|DA|$ kaç santimetredir?

- A) $6\sqrt{2}$ B) 9
 C) 12 D) $12\sqrt{2}$

3. OTURUM

19.



Şekildeki ABCD deltoidinde
 $|AB| = |BC|$,
 $|AD| = 5 \text{ cm}$, $|DB| = 10 \text{ cm}$ ve
 $A(ABCD) = 30 \text{ cm}^2$ dir.

Buna göre $|BC|$ kaç santimetredir?

- A) $2\sqrt{5}$ B) $3\sqrt{5}$
 C) $4\sqrt{5}$ D) $5\sqrt{5}$

20. Düzgün bir çokgenin bir iç açısının ölçüsü bir dış açısının ölçüsünün 4 katıdır.

Buna göre düzgün çokgen kaç kenarlıdır?

- A) 12 B) 11 C) 10 D) 9

(165) MATEMATİK – 5

1. Aşağıdaki fonksiyonlardan hangisi dizidir?

- A) $k(n) = \frac{3n+2}{2n-5}$
 B) $g(n) = \sqrt{11-n}$
 C) $h(n) = \frac{2n}{n^2-4n-5}$
 D) $f(n) = \frac{3n-1}{n-5}$

2. İlk terimi 5, dördüncü terimi $\frac{1}{25}$ olan geometrik dizinin ortak çarpanı aşağıdakilerden hangisidir?

- A) -2 B) $-\frac{1}{5}$ C) $\frac{1}{5}$ D) 2

3. 1, 1, 2, 3, a, 8, b, 21, ...

Yukarıda ilk sekiz terimi verilen Fibonacci dizisinde $a + b$ kaçtır?

- A) 10 B) 18 C) 20 D) 28

4. Rakamları birbirinden farklı, beş basamaklı 48 03K sayısı 2 ile bölünebilmektedir.

Buna göre K'nin alabileceği değerler çarpımı kaçtır?

- A) 0 B) 12 C) 48 D) 84

5. Aşağıdaki sayılardan hangisi 3 ile bölünebilir?

- A) 68 474 B) 42 118
 C) 3942 D) 2866

6. Dört basamaklı 612N sayısı 9 ile bölünebilmektedir.

Buna göre N'nin alabileceği değerler toplamı kaçtır?

- A) 12 B) 11 C) 10 D) 9

7. Altı basamaklı A23 575 sayısı 11 ile bölünebildiğine göre A kaçtır?

- A) 2 B) 3 C) 5 D) 7

8. Beş basamaklı 8A 73B sayısı 9 ile bölünebilmektedir.

Bu sayının 5 ile bölümünden kalan 3 olduğuna göre A'nın alabileceği en küçük değer kaçtır?

- A) 6 B) 4 C) 1 D) 0

9. Aşağıdakilerden hangisinde verilen sayılar aralarında asaldır?

- A) 14 ve 21 B) 24 ve 56
 C) 42 ve 63 D) 54 ve 65

10. Beş basamaklı 42 A2B sayısı 15 ile bölünebildiğine göre $A + B$ 'nin en büyük değeri kaçtır?

- A) 11 B) 13 C) 15 D) 17

11. Ayrıtlarının uzunlukları 2 cm, 3 cm ve 4 cm olan dikdörtgenler prizmaları kullanılarak küp oluşturulacaktır.

Buna göre kullanılacak dikdörtgenler prizması sayısı en az kaç olabilir?

- A) 72 B) 144 C) 424 D) 546

12. Ali 48 günde bir, Veli 36 günde bir nöbet tutmaktadır.

Ali ve Veli ilk nöbetlerini birlikte tuttuktan en az kaç gün sonra tekrar birlikte nöbet tutarlar?

- A) 54 B) 96 C) 108 D) 144

13. Şeker oranı %25 olan 16 litre şekerli suya 4 litre saf su ilave edildiğinde oluşan karışımın şeker oranı yüzde kaç olur?

- A) 18 B) 20 C) 22 D) 24

14. Bir paltonun %40 zamlı satış fiyatı 560 lira olduğuna göre zam yapılmadan önceki satış fiyatı kaç liradır?

- A) 320 B) 360 C) 400 D) 480

15. 80 gramlık bir karışımın %20'si ile 60 gramlık bir karışımın %25'inin oluşturduğu karışım kaç gramdır?

- A) 29 B) 30 C) 31 D) 32

16. Yıllık %30 basit faizle bankaya yatırılan 4300 lira 4 yıl sonunda faiziyle birlikte kaç lira olur ?

- A) 9460 B) 9320
 C) 9280 D) 9140

17. Yaş üzüm kurutulduğunda kütlelerinin %60'ını kaybetmektedir.

Buna göre 320 kg yaş üzüm kurutulduğunda kaç kilogram kuru üzüm elde edilir?


- A) 192 B) 164 C) 136 D) 128

18. Bir miktar para 12 ve 16 yaşlarındaki kardeşler arasında yaşlarıyla doğru orantılı olacak şekilde paylaşılıyor.

Büyük kardeş 60 lira aldığına göre küçük kardeş kaç lira almıştır?

- A) 42 B) 45 C) 48 D) 54

3. OTURUM

19. 
- Hızı saatte 50 km olan hareketli A noktasından, hızı saatte 70 km olan hareketli B noktasından birbirlerine doğru aynı anda hareket ettiklerinde 4 saat sonra karşılaşıyorlar.
- Buna göre |AB| kaç kilometredir?**
- A) 480 B) 460
C) 440 D) 420
20. Aynı iş gücüne sahip iki işçi bir işi birlikte 15 günde bitirebilmektedirler. **İşçilerden biri çalışma hızını yarıya indirip, diğeri çalışma hızını iki katına çıkardığında birlikte aynı işi kaç günde bitirebilirler?**
- A) 11 B) 12 C) 13 D) 14

(206) PSİKOLOJİ – 1

1. **Psikolojinin uygulama alanlarından hangisi insanların zekâ, kişilik, ruh hastalıkları gibi çeşitli konulardaki problemlerinin teşhis edilmeleri ile ilgili olarak geliştirilen teknikler üzerinde çalışır?**
- A) Klinik psikoloji
B) Hukuk psikolojisi
C) Eğitim psikolojisi
D) Endüstri psikolojisi
2. **Aşağıdakilerden hangisi deneysel yöntemin aşamaları arasında yer almaz?**
- A) Varsayım B) Gözlem
C) Görüşme D) Deney
3. • İç gözlem yönteminin kullanılması bilime aykırıdır.
• Bilinç hallerinin değil, gözlenebilir davranışların incelenmesi gerekir.
• İnsanı ve davranışlarını anlamak için, hayvan davranışları da incelenmelidir.
- Bu görüşleri benimseyen psikolojik yaklaşım aşağıdakilerden hangisidir?**
- A) İşlevselci B) Yapısalcı
C) Davranışçı D) Hümanistik

4. **Aşağıdakilerden hangisi doğrudan gözlenebilen bir davranıştır?**
- A) Düşünmek
B) Hayal kurmak
C) Rüya görmek
D) Araba kullanmak
5. I. İnsan davranışlarının nedenini araştırmak
II. Toplumsal olayların nedenlerini incelemek
III. İnsanın çevresiyle uyum içinde olmasını sağlamak
- Yukarıdakilerden hangileri psikolojinin amaçları arasında yer almaz?**
- A) Yalnız I B) Yalnız II
C) I ve III. D) II ve III.
6. **Duyumları yorumlama ve onları anlamlı hâle getirme süreci aşağıdaki kavramlardan hangisiyle ifade edilir?**
- A) Tepki B) Uyarım
C) Dürtü D) Algılama
7. **Aşağıdaki davranışlardan hangisi fizyolojik bir güdüden kaynaklanır?**
- A) Uyumak
B) Başarılı olmak
C) Statü kazanmaya çalışmak
D) Toplumda kabul görmek için çaba harcamak
8. **Aşağıdakilerden hangisi yetersiz uyarıya maruz kalan bireylerde görülmez?**
- A) Algılama bozuklukları
B) Yüksek motivasyon
C) Ruhsal çöküntü
D) Davranışlarda düzensizlik
9. I. Rüyalarda ortaya çıkabilirler.
II. Davranışlarımızı ve kişiliğimizi etkilerler.
III. Kişi istediği zaman bu düşünceleri bilinç alanına getirebilir.
- Freud'a göre, bilinçaltı düzeyindeki duygu ve düşüncelerimizle ilgili yukarıda verilen bilgilerden hangileri doğrudur?**
- A) I ve II. B) I ve III.
C) II ve III. D) I, II ve III.

10. **Deney yöntemiyle ilgili aşağıda verilen bilgilerden hangisi yanlıştır?**
- A) En az iki denek grubu kullanılır.
B) Koşullar önceden hazırlanır.
C) Denek gruplarının özellikleri birbirinden farklı olmalıdır.
D) Bir değişkenin etkilerini gözlemlemek için başvurulur.
11. **Edimsel koşullanmanın temelinde aşağıdakilerden hangisi bulunur?**
- A) Haz veren duruma yönelerek, acı veren durumdan kaçılması
B) Toplumsal davranışlara uyum sağlanması
C) Problemin çözümünün aniden görülmesi
D) Bilimsel gereksinimlerin giderilmesi
12. Atlara konuşmayı, balıklara uçmayı, yılanlara yürümeyi öğretemeyiz. **Bu durumlar öğrenmeyi etkileyen hangi faktörden kaynaklanır?**
- A) Güdülenmeden
B) Olgunlaşmadan
C) Türe özgü hazır oluştan
D) Genel uyarılmışlık halinden
13. **Aşağıdaki davranışların hangisinde öğrenmenin etkisi yoktur?**
- A) Belli bir dili konuşmak
B) Sıcak havada terlemek
C) Bir oyunu kurallarına göre oynamak
D) Bir matematik problemini çözmek
14. **Aşağıdakilerden hangisi algıyı etkileyen dış faktörlerdendir?**
- A) İhtiyaçlar
B) Duygular
C) Zihni tutumlar
D) Kültürel çevre
15. **Aşağıdakilerden hangisi halüsinasyon ile ilgili yanlış bir bilgidir?**
- A) Çevrede uyarıcı olmaksızın meydana gelir.
B) Gerçek bir algı yanılsaması değildir.
C) Tüm insanlarda görülen normal bir durumdur.
D) Aşırı ve yetersiz uyarım halüsinasyonlara neden olabilir.

3. OTURUM

16. Aşağıdakilerden hangisi amnezinin (hafıza kaybı) nedenlerinden biri değildir?

- A) Sarsıntı
- B) Öğrenme
- C) Yüksek ateş
- D) Beyin zedelenmesi

17. Aşağıdakilerden hangisi belleğin çağırma işlevine örnektir?

- A) Yeni öğrendiğimiz benzer iki kavramı eşleştirerek aklımızda tutmak
- B) Bir telefon numarasını deftere yazana kadar tekrarlamak
- C) Hoşlanmadığımız şeyleri bilinçaltına atmak
- D) Önceden öğrendiğimiz konularla ilgili soru sorulduğunda cevap verebilmek

18. Aşağıdakilerden hangisi öğrenmeyi olumlu etkileyen faktörlerden değildir?

- A) Öğrenilecek materyalin anlamsız olması
- B) Öğrenilen konuların tekrar edilmesi
- C) Öğrenilecek konunun ihtiyaca uygun olması
- D) Konunun bütünüyle öğrenilmesi

19. Uyku ile ilgili aşağıda verilen bilgilerden hangisi yanlıştır?

- A) Uyku sinir sisteminin dinlenmeye geçmesini sağlar.
- B) Uyku sırasında organizmanın genel aktivitesinde hızlanma görülür.
- C) Uyku sırasında beyin bazı uyarılara karşı duyarlıdır.
- D) Uyku sırasında daha önce öğrenilenler depolanır.

20. I. Orijinal fikirlere sahip olma
II. Kararlarında bağımsız olma
III. Alışılmış yöntemlerin dışına çıkma

Yukarıdakilerden hangileri yaratıcı kişilerin temel özelliklerindedir?

- A) I ve II.
- B) I ve III.
- C) II ve III.
- D) I, II ve III.

(209) SOSYOLOJİ – 2

1. I. Toplumsal olma
II. Zaman geçse de aynı kalma
III. Toplumların geçmişinden bağımsız olma

Yukarıdakilerden hangileri kültürün özellikleri arasında yer almaz?

- A) Yalnız I
- B) Yalnız II
- C) I ve III.
- D) II ve III.

2. Aşağıdakilerden hangisi kültürün manevi öğelerinden değildir?

- A) Gelenekler
- B) Okullar
- C) Değerler
- D) Dil

3. Toplumsal kurumlarla ilgili aşağıda verilen bilgilerden hangisi doğrudur?

- A) Her kurumdan beklenen kural, değer ve davranış örüntüleri aynıdır.
- B) Toplumsal kurumların ömrü bireylerin ömrüyle sınırlıdır.
- C) Toplumsal kurumlar birbirleriyle ilişki içine girmezler.
- D) Toplumsal kurumlar bir bütün olarak toplumsal sistemi oluştururlar.

4. "Bireyin, doğumdan ölüme kadar toplumun istek ve beklentilerine uyacak şekilde etkilenmesi ve değiştirilmesi sürecidir."

Bu tanım aşağıdaki hangi kavrama aittir?

- A) Kültür şoku
- B) Kültürleme
- C) Kültürel farklılık
- D) Kültürel yozlaşma

5. Bir kültüre başka bir kültürden giren kimi öğelerin bazı bireyler ve gruplar tarafından benimsenmesi ile aşağıdakilerden hangisi ortaya çıkar?

- A) Alt kültür
- B) Manevi kültür
- C) Kültürel çatışma
- D) Kültürel emperyalizm

6. Tibet ve Alaska'da görülen ve az rastlanan bu evlilik türünde, bir kadın birden fazla erkekle evlenir.

Bu bilgi aşağıdaki evlilik türlerinden hangisine aittir?

- A) Monogami
- B) Poliandri
- C) Egzogami
- D) Polijini

7. Aşağıdakilerden hangisi çekirdek ailenin özellikleri arasında yer almaz?

- A) Erkeğin birden fazla kadınla evlenmesiyle oluşur.
- B) Evlilik hukuk kurallarıyla gerçekleşir.
- C) Sanayi toplumlarında özellikle kentlerde görülür.
- D) Anne, baba ve evlenmemiş çocuklardan oluşur.

8. Çocuğun içinde yaşadığı toplumun kültürünü öğrenme süreci ailede başlar.

Yukarıda ailenin hangi işlevinden söz edilmiştir?

- A) Ekonomik
- B) Psikolojik
- C) Toplumsallaştırma
- D) Neslin devamını sağlama

9. "Ruha tapma" anlamına gelen bu inanca göre, doğadaki tüm varlıklar bir ruha sahip ve canlıdır. Tüm evren ruhlarla yönetilir.

Bu dini inanış şekli aşağıdakilerden hangisidir?

- A) Animizm
- B) Politeizm
- C) Fetişizm
- D) Monoteizm

10. I. İnsanları psikolojik olarak rahatlatma
II. Birtakım kurullarla toplumsal düzeni sağlamaya çalışma
III. Kişiye nasıl bir yaşam sürmesi gerektiği konusunda öneriler sunma

Yukarıdakilerden hangileri dinin bireysel işlevleri arasında yer alır?

- A) Yalnız I
- B) I ve II.
- C) I ve III.
- D) II ve III.

11. Aşağıdakilerden hangisi siyasetin alt kurumları arasında yer almaz?

- A) Meclis
- B) Sermaye
- C) Hükümet
- D) Sivil toplum kuruluşları

12. Egemenliğin kaynağını Tanrı'dan alan ve yönetimin dinsel kurallara göre düzenlendiği yönetim şeklidir.

Tanımı verilen bu kavram aşağıdakilerden hangisidir?

- A) Aristokrasi
- B) Oligarşi
- C) Teokrasi
- D) Monarşi

3. OTURUM

13. Aşağıdakilerden hangisi baskı yolu ile gerçekleşen toplumsal değişimin özellikleri arasında yer alır?

- A) Evrensel hukuk normları çerçevesinde gerçekleştirilir.
- B) Demokratik yollarla gerçekleştirilen değişimlerdir.
- C) Toplumun bütün kesimlerinin onayı alınarak gerçekleştirilir.
- D) Toplumun kendi iç dinamikleri tarafından uygulanabileceği gibi dış etkiler tarafından da uygulanabilir.

14. Elde edilmesi emek ve maliyet gerektiren mallara "ekonomik mal" denir.

Buna göre aşağıdakilerden hangisi ekonomik mal değildir?

- A) Güneş
- B) Kömür
- C) Petrol
- D) Çimento

15. I. İhtiyaç duyulan mal ve hizmetleri elde etmek için gerçekleştirilen etkinliklerdir.
II. Mal ve hizmetlerin insan ihtiyaçlarını karşılamak amacıyla kullanılmasıdır.

Tanımlanan bu kavramlar aşağıdakilerin hangisinde sırasıyla verilmiştir?

- A) Emek - Bölüşüm
- B) Üretim - Emek
- C) Üretim - Tüketim
- D) Tüketim - Bölüşüm

16. Aşağıdakilerden hangisi kapitalist ekonomik sistemin özelliklerinden biri değildir?

- A) Üretilen malların miktarını devlet belirler.
- B) Üretimde temel amaç kar elde etmektir.
- C) Mallar satın alma gücüne sahip olanlar için üretilir.
- D) Üretim araçlarının mülkiyeti bireylerin elindedir.

17. I. Fiziki çevre
II. Bilim ve teknoloji
III. Kitle iletişim araçları

Yukarıdakilerin hangileri toplumsal değişmeyi etkileyen faktörlerdendir?

- A) Yalnız I
- B) Yalnız II
- C) II ve III.
- D) I, II ve III.

18. Aşağıdakilerden hangisi Türk Medeni Kanununda belirtilen boşanma nedenlerinden değildir?

- A) Kadının çalışması
- B) Cana kast
- C) Suç işleme
- D) Terk

19. Aşağıdakilerden hangisi toplumsal değişme ile ilgili yanlış bir bilgidir?

- A) Değişmenin hızı her toplumda aynıdır.
- B) Değişme planlı olabileceği gibi baskıyla da olabilir.
- C) Değişme doğal bir olgu ve zorunluluktur.
- D) Değişim süreklilik arz eder.

20. Toplumsal gelişmenin göstergelerinden biri orta tabakanın genişlemesidir.

Bu bilgiye göre aşağıdakilerden hangisi orta tabakanın genişlemesine katkı sağlamaz?

- A) Kaliteli sağlık hizmetlerinin sunulması
- B) Kişi başına düşen milli gelirin azalması
- C) Adil vergi politikalarının uygulanması
- D) Eğitimde fırsat eşitliğinin sağlanması

(242) İNGİLİZCE – 3

1 - 20. sorularda boş bırakılan yere uygun gelen kelime ya da ifadeyi işaretleyiniz.

1. - - - - Ankara is a crowded city.

- A) A
- B) An
- C) The
- D) -

2. Which one is - - - - pen?

- A) you
- B) your
- C) yours
- D) yourselves

3. - - - - car in the garage is mine.

- A) That
- B) They
- C) These
- D) Those

4. - - - - is your best friend in the class?

- A) Whose
- B) When
- C) What
- D) Who

5. Ahmet studies - - - - lessons every day.

- A) him
- B) he's
- C) his
- D) he

6. She doesn't have - - - - money.

- A) an
- B) any
- C) many
- D) a few

7. We - - - - a comedy film now.

- A) watch
- B) watches
- C) are watching
- D) is watching

8. The baby is sleeping - - - - .

- A) right now
- B) yesterday
- C) last week
- D) next year

9. Abby : How often do you go shopping?

Elif : - - - - .

- A) Next Saturday
- B) Once a week
- C) Last month
- D) Tomorrow

10. Tina - - - - eating out with her family.

- A) likes
- B) like
- C) liking
- D) to like

11. Veysel usually - - - - to work very early in the morning.

- A) go
- B) goes
- C) to go
- D) going

12. Clark is going to - - - - his holiday in Paris.

- A) spend
- B) watch
- C) study
- D) play

13. Samuel - - - - a doctor next year.

- A) has been
- B) had been
- C) used to be
- D) is going to be

14. Everybody can answer this test. It is not - - - - .

- A) silent
- B) quiet
- C) round
- D) difficult

3. OTURUM

15. ---- are your plans for the future?

- A) Who B) Why
C) What D) Which

16. ---- films do you watch a month?

- A) How many B) How much
C) Where D) When

17. Alice : ---- are you so upset?

Ethan : Because I have lost my dog.

- A) Who B) Why
C) When D) Which

18. Look! The blind man ---- going to fall into the hole.

- A) does B) are
C) is D) am

19. Ali : How often do you go to cinema?

Ruby : ----.

- A) Twice a month
B) Next year
C) Last year
D) Now

20. Max : ---- kind of films do you like?

Matt : I like comedy films.

- A) Who B) What
C) Which D) Where

(242) ALMANCA – 3

1-15. sorularda boş bırakılan yere uygun gelen kelime ya da ifadeyi işaretleyiniz.

1. A: ---- fährst du am Samstag?
B: Zu meiner Großmutter.

- A) Womit B) Zu wem
C) Warum D) Wo

2. Der klein- ---- Junge mit der Brille heißt Heinz.

- A) -e B) -en C) -es D) -er

3. Frau Yılmaz putzt ---- Teppich.

- A) der B) dem C) den D) die

4.



Was ist ihr Beruf?
Sie ist ----.

- A) Lehrerin B) Frisöse
C) Polizistin D) Putzfrau

5. A: Woher kommst du Gülay?
B: Ich komme ---- dem Theater.
A: Wohin gehst du?
B: Ich gehe ---- Hause.

- A) in / zu B) aus / nach
C) im / zur D) von / ins

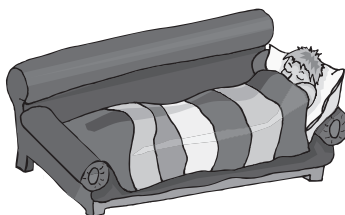
6. Mit einem Schlüssel ---- man die Tür.

- A) öffnet B) öffnest
C) offen D) geöffnet

7. Die Familie Krause hat ein groß- ----, bunt- ---- Haus.

- A) -er / -e B) -es / -es
C) -en / -en D) -e / -e

8.



Michael schläft ---- Sofa.

- A) in der B) zu der
C) unter dem D) auf dem

9. Meine Mutter sagt, ---- ich zu wenig esse.

- A) denn B) weil
C) dass D) darum

10. gehen, ----, gegangen (Präteritum)

- A) ging B) gehen
C) gehst D) gehe


11. Mehmet und Tom treffen ---- am Bahnhof.

- A) ich B) sein
C) unser D) sich

12. Die klein ---- Katzen sind sehr schön.

- A) -e B) -en C) -es D) -er

13.



Was ist sein Beruf?
Er ist ein ----.

- A) Fahrer B) Metzger
C) Lehrer D) Arzt


14. Das ---- Gebäude in der Türkei ist in Istanbul.

- A) hoch B) höher
C) höchste D) Hoheit

15. sitzen, ----, gegessen (Präteritum)

- A) saß B) sitzt
C) setzen D) setzte

16.



Was sind das?

- A) Pullover B) Schuhe
C) Strümpfe D) Handschuhe

17. Aşağıdakilerden hangisi ayrılabilir fiildir?

- A) gesehen B) geputzt
C) aufmachen D) verstehen

3. OTURUM

18. Hangisinde sıfatların zıt anlamlısı yanlış verilmiştir?

- A) kalt x sauber
- B) lang x kurz
- C) teuer x billig
- D) schwarz x weiß

19. Aşağıdakilerden hangisi bileşik isimdir?

- A) Erfahrung
- B) Verstehen
- C) Probieren
- D) Kühlschrank

20. Aşağıdakilerden hangisinin sözcük anlamı diğerlerinden farklıdır?

- A) Vogel
- B) Kamel
- C) Motorrad
- D) Esel

(242) FRANSIZCA – 3

1-18. sorularda boş bırakılan yere uygun gelen kelime ya da ifadeyi işaretleyiniz.

1. A: Tank a dix-sept ans ?

B: Non, - - - - n'a pas dix-sept ans.

- A) il
- B) elle
- C) tu
- D) ils

2. A: Vous écoutez la radio le matin ?

B: Oui, je - - - - écoute.

- A) te (t')
- B) les
- C) la (l')
- D) le (l')

3. A : Est-ce que vous faites les exercices ?

B : Oui, nous - - - - faisons.

- A) nous
- B) les
- C) la
- D) leurs

4. A: Tu téléphones à ton père ?

B: Oui, je - - - - téléphone souvent.

- A) le
- B) la
- C) leur
- D) lui

5. A : Est-ce que quelqu'un parle français au bureau de poste ?

B : Non, - - - - ne parle français.

- A) rien
- B) depuis
- C) quelque chose
- D) personne

6. Je déteste les gens - - - - ne disent jamais bonjour.

- A) qui
- B) ou
- C) où
- D) que

7. Comme il - - - - elle ne sort pas.

- A) neigé
- B) venu
- C) pleut
- D) plu

8. A: Je n'aime pas cela.

B: Dis-moi - - - - tu aimes, alors!

- A) ce qui
- B) ce que
- C) depuis
- D) pour

9. A: Tu as déjà lu ce roman ?

B: Oui, je l'ai lu - - - -.

- A) la semaine prochaine
- B) le mois dernier
- C) demain
- D) après-demain

10. A : Bernard va au magasin de musique ?

B : Oui, il - - - - va en métro.

- A) dans
- B) en
- C) aux
- D) y

11. A : Comment vas-tu à l'école, Asya ?

B : J'y vais à vélo mais - - - - il fait froid, j'y vais en voiture.

- A) quand
- B) parce que
- C) qui est-ce qui
- D) combien

12. Madame, votre mari est malade.

Vous ne lui permettrez pas de - - - -.

- A) respecter
- B) vendre
- C) acheter
- D) fumer

13. A: Vous mangez du miel ?

B: Oui, nous - - - - mangeons.

- A) en
- B) du
- C) des
- D) y

14. A : Qu'est-ce qu'un - - - - ?

B : C'est quelqu'un qui soigne les dents malades.

- A) pilote
- B) médecin
- C) vétérinaire
- D) dentiste

15. C'est Kıvanç Tatlıtuğ - - - - joue dans le film Kelebeğin Rüyası.

- A) donc
- B) que
- C) qui
- D) ce que

16. Kuzey Vargın, acteur célèbre est - - - - à l'âge de 77 ans.

- A) né
- B) mort
- C) marché
- D) donné

17. La pâtissière - - - - des gâteaux, des croissants.

- A) faire
- B) ai fait
- C) fait
- D) faisais

18. Jean - - - - passé ses vacances d'hiver en Autriche.

- A) as
- B) es
- C) a
- D) est

19-20. sorularda verilen resme göre doğru ifadenin bulunduğu seçeneği işaretleyiniz.

19.



S'il - - - - elle aime marcher sous son parapluie.

- A) neige
- B) pleut
- C) fait chaud
- D) fait froid

20.



Il est - - - .

- A) boucher B) médecin
C) journaliste D) professeur

(403) DİL VE ANLATIM – 3

1. • Anlattığım konuyu kim özetleyecek?
• Tüm organlarımız gibi beynimiz de yaşlanır.
• Aracınızı lütfen buradan çekiniz!

Bu cümlelerde aşağıdaki dil işlevlerinden hangisine örnek yoktur?

- A) Göndergesel
B) Alıcıyı harekete geçirme
C) Dil ötesi
D) Kanalı kontrol

2. Çağımızda bilimsel ve teknolojik gelişmeler sayesinde iletişim olanakları çeşitlenmiştir. Bu da iletişimi hiç olmadığı kadar kolaylaştırmıştır. Hayatımızın her aşamasında var olan iletişim, bilişim teknolojilerinin yaygınlaşmasıyla küreselleşen dünyanın en temel ögesi hâline gelmiştir.

Bu parçaya verilebilecek en uygun başlık aşağıdakilerden hangisidir?

- A) Küreselleşen Dünya
B) İletişim ve Teknoloji
C) Çevre ve İletişim
D) Sağlıklı İletişim Yolları

3. Tartışmadan önce probleme uygun dramatizasyonlar yapılabilir, sergiler ve yakın çevre gezilebilir, yazılı materyaller okunabilir, farklı kaynaklardan yararlanılabilir. Bu tür etkinlikler katılımcılarda ortak yaşantı oluşmasını sağlar, tartışmanın yöntemini belirler ve tartışmaya katılımı artırır.

Bu parçada tartışma yönteminin aşamalarından hangisi hakkında bilgi verilmiştir?

- A) Değerlendirme
B) Problemin seçimi
C) Tartışmayı yönlendirecek soruların belirlenmesi
D) Araç ve tekniklerin belirlenmesi

4. Aşağıdakilerden hangisi tartışmanın amaçlarından değildir?

- A) Düşüncelerin, gözlem ve kanıların değişmesini sağlamak
B) Bir konunun olumlu ya da olumsuz yönlerini ortaya koymak
C) Herkesi aynı doğrultuda düşünmeye sevk etmek
D) Bir konuya farklı yaklaşımlar kazandırmak

5. Aşağıdaki cümlelerin hangisinde dolaylı anlatım söz konusudur?

- A) Yorgunluğunuzu gidermek için kitap okuyunuz, derler.
B) Bu sular her derde devadır, diyerek bizi ikna etmeye çalıştı.
C) Eskiden buraların bağ bostan olduğunu söyler, dertlenir dururdu.
D) Doğu ölümün sırrına sahiptir, cümlesiyle başladı söze.

6. Karşıda ağır yüklü bir dağ, göl kıyısı boyunca yere çömelmişti; üst yarısı göğe ait, parlak beyazdı; alt yarısı ise karanlık ve zalim. Bir bakıma burası cennet ile yeryüzünün ayrıldığı yerdi.

Bu parçada aşağıdaki anlatım biçimlerinden hangisi kullanılmıştır?

- A) Açıklama B) Betimleme
C) Öyküleme D) Tartışma

7. (I) Gorki'nin otobiyografik üçlemesinin ilk kitabı olan "Çocukluğum", yazarın beş yaşında babasını kaybettiği tarihten başlayarak dede evinden ayrıldığı zamana kadarki yaşamını anlatıyor. (II) İkinci kitap olan "Ekmeğimi Kazanırken" çalışmak zorunda kaldığı dönemi anlatır. (III) Üçlemenin son kitabı ise "Benim Üniversitelerim" adını taşır. (IV) Bu üçleme Gorki'nin "Ana" romanını, o kadar bilinmese de, gölgede bırakacak değerdedir.

Bu parçada numaralanmış cümlelerden hangisi öznel anlatımdır?

- A) I. B) II. C) III. D) IV.

8. Batılı bir turizm uzmanı, "Yeryüzünde pek az memleket turist çekme bakımından Türkiye ile boy ölçüşebilir." diyor. Bu değerli övgü bir nezaket sözü değildir. Gerçekten yurdumuz, Akdeniz ikliminden Alpler iklimine kadar basamak basamak değişen tabiat nitelikleri ile deniz kıyıları, yüce dağlar, ormanlar, göller, çağlayanlar vb. güzellikleri yanında en eski uygarlıkların anılarını da sınırları içinde barındırır.

Bu parçanın anlatım türü aşağıdakilerden hangisidir?

- A) Öyküleyici
B) Mizahi
C) Kanıtlayıcı
D) Gelecekte söz eden

9. Aşağıdakilerden hangisi öyküleyici anlatım özellikleri arasında sayılamaz?

- A) Farklı anlatıcı türlerinden yararlanılabilir.
B) Dil daha çok göndergesel işlevde kullanılır.
C) Kişi, zaman ve mekân öğeleriyle olay örgüsü aktarılır.
D) Bir olayın olması şarttır.

10. Okurlar otobiyografik öğeler taşıyan kitaplardan bir kat daha fazla etkilenir, diye düşünüyorum. Tamamen kurmaca olduğu düşünülen bir metinde bile -biz okuyucular fark edemesek de- yazarın birçok anısı, kederi, gözlemi vardır. Hâl böyleyken doğrudan yazarın kendi yaşam öyküsünden hareketle büyüyen eserin barındırdığı karmaşık duyguların yazar tarafından yaşandığını bilmek anlatılanların okur üzerindeki etkisini daha da artırır.

Bu parçanın yazarına göre otobiyografik eserlerin daha çok etkileyici olmasının nedeni aşağıdakilerden hangisidir?

- A) Gerçek bir yaşamı anlatması
B) Öğretici yönünün ağır basması
C) Doğal bir anlatımın kullanılıyor olması
D) Heyecan unsurunun daima ön planda bulunması

11. Aşağıdakilerden hangisi iletişimin öğelerinden değildir?

- A) İşaret B) Gönderici
C) Alıcı D) İleti

3. OTURUM

12. Aşağıdakilerden hangisi sunumda görsel malzeme kullanımının amaçlarından değildir?

- A) Dinleyicinin verilen bilgiyi daha iyi algılamasını sağlamak
- B) Bilginin ezberlenmesini kolaylaştırmak
- C) Kavramları anlatırken zaman kazanmak
- D) Fikirleri sağlamlaştırmak

13. Panel, düzenleniş itibarıyla aşağıdakilerden hangisiyle benzerlik gösterir?

- A) Açık oturum
- B) Münazara
- C) Konferans
- D) Sempozyum

14. Bugün de sonbahardan süzülüp doğdu akşam
Dağların yere indi koyu, serin gölgesi
Uludağ etekleri al ipekten bu akşam
Düştü yeşil ovaya kubbelerin gölgesi
Bu dörtlüğe hâkim olan tema aşağıdakilerden hangisidir?

- A) Yalnızlık
- B) Doğa sevgisi
- C) Aşk
- D) Özlüm

15. Aşağıdaki konulardan hangisi diğerlerinden daha fazla sınırlanmıştır?

- A) Dünya edebiyatında roman
- B) Servetifünun edebiyatında roman
- C) Türk edebiyatında roman
- D) Halit Ziya Uşaklıgil'in romanı

16. Sevimsiz formalara, bitmek bilmeyen ders saatlerine, çekilmez kurallarına rağmen okul yılları yaşamımızda hasretle andığımız bir dönemdir. Anılar, aradan geçen yıllardan süzül-
düğünde geriye yüzümüzde hoş bir gülümseme kalır. Dostluklar, arkadaşlara yapılan şakalar, ihlal edilen okul kuralları, öğretmenlere isyan, kırılan dersler...

Bu parçada asıl üzerinde durulan aşağıdakilerden hangisidir?

- A) Anıları yazıya dökmenin faydaları
- B) Okul kurallarına uymanın önemi
- C) Ders saatlerinin sıkıcılığı
- D) Okul yıllarının unutulamayan özellikleri

17. Aşağıdakilerin hangisinde birinci kişili anlatım kullanılmıştır?

- A) Bir gün, kentin ilk yerleşim alanının bulunduğu semtten geçerken görmüştü bu camiyi. Cami küçü-cüktü. Ancak kırk elli kişiyi barındırabilirdi.
- B) Adam bisiklet pedalını indirdi. Bisikletin gidonunda damalı bir pazar çantası, çantada üç ekmeğe vardı.
- C) Akşama doğru köy yolunun ağzından aldı beni payton. Paytoncu Mustafa Amca'nın bir şey demesine fırsat vermeden bir sıçrayışta çıkıp yanına oturdum.
- D) Kulaklarına inanmadı çocuk. Kocaman açılmış gözlerle bakıyor, kımlıdayamıyordu. Gerçekten kendisi ile konuşan bir kar tanesi...

18. Öykülerin hepsi yazarın üslubu, ince işlenmiş güzel cümleleri ve sarkmayan iyi kurgusuyla insanda okuma isteğini kamçılıyor.

Bu cümlede söz konusu öykülerin hangi özelliği üzerinde durulmuştur?

- A) Akıcılık
- B) Duruluk
- C) Özlülük
- D) Açıklık

19. Aşağıdakilerden hangisi alışılmış bağdaştırmaya örnek olamaz?

- A) Kızamık bakışlı çocuk
- B) Sevda bulutunun yağmuru
- C) Kalp diyarının hırsızı
- D) Kış güneşinin ışığı

20. Ülkemiz gelecek haftadan itibaren Sibiryaya üzerinden gelen çok soğuk ve kar yağışlı bir havanın etkisine girecek. Ülkemizin iç ve doğu kesimlerinde kar, sahil bölgelerinde şiddetli yağmur görülecek.

Bu parça aşağıdakilerden hangisine örnektir?

- A) Gelecekte söz eden anlatıma
- B) Düşsel anlatıma
- C) Öyküleyici anlatıma
- D) Mizahi anlatıma

(405) DİL VE ANLATIM – 5

1. Aşağıdakilerden hangisi öğretici metinlerin özelliklerinden biri değildir?

- A) Dil, açık ve anlaşılır bir biçimde kullanılır.
- B) Bilgi vermek ve okuyucuyu aydınlatmak için yazılır.
- C) Kurmaca değil, gerçeklik ön plandadır.
- D) Her okuyan bu metinlerden farklı anlamlar çıkarır.

2. Aşağıdakilerin hangisinde sanatsal metin türleri bir arada verilmiştir?

- A) Masal – halk hikâyesi – mesnevi
- B) Anı – hikâye – fabl
- C) Günlük – mektup – biyografi
- D) Hikâye – roman – sohbet

3. • Sağ alt köşeye adres yazılır.

• Sağ alt veya sağ üst tarafa tarih atılır.

• Ad-soyad sol üst köşeye yazılır.

"Resmî mektup"la ilgili bu cümleler doğru-yanlış olarak değerlendirildiğinde sıralama aşağıdakilerin hangisi olur?

- A) D – D – Y
- B) Y – Y – D
- C) D – Y – Y
- D) Y – D – Y

4. 11 Ekim 2010

Saat 23.00, uyumak üzereyim. Telefonum çaldı. Çok korktum. Gece çalan telefonlar nedense beni ürpertir.

12 Ekim 2010

Sabah kalktım, kısa bir yürüyüş yapıp ekmeğimi ve gazetemi aldım. Yine acı haberler... Ne zaman bu tür haberlere rastlamayacağız acaba?

Bu parça aşağıdaki metin türlerinin hangisinden alınmıştır?

- A) Anıdan
- B) Mektuptan
- C) Günlükten
- D) Gezi yazısından

3. OTURUM

5. Burdur'a bağlı Yeşilova ilçesinin Akçaköy'ünde 1929 yılında doğdum. Altı çocuklu, az topraklı bir köylü ailesinin yukarıdan ikinci çocuuyum. Babam Veli, Yemen'de seferberlikte askerlik etmiş; yaralanmış, esir düşmüş. Az toprakla çiftçilik yeterli bir iş olmadığı için bunun yanı sıra köy bakıcılığı ve değirmencilik de yapmış.

Bu parça aşağıdaki metin türlerinin hangisine örnektir?

- A) Biyografiye
B) Otobiyografiye
C) Gezi yazısına
D) Günlüğe

6. Aşağıdakilerin hangisinde haber yazılarıyla ilgili yanlış bir bilgi vardır?

- A) Günlük ve önemli olması gerekir.
B) Kolay anlaşılır, akıcı ve duru bir anlatıma sahip olmalıdır.
C) Haberi yazan kişi, tarafını belli etmelidir.
D) Yanlış anlaşılmalara yer verilmemelidir.

7. Aşağıdakilerden hangisi edebiyatımızda fıkralarıyla tanınan yazarlarımızdan biridir?

- A) Ahmet Mithat Efendi
B) Ahmet Rasim
C) Mehmet Âkif Ersoy
D) Tefik Fikret

8. • Yazar işlediği konu üzerindeki çeşitli düşünceleri, kendi yorumunu da katarak ortaya koyar.

- Rahat okunan bir düşünce yazıdır.
• Yazar kendisi ile tartışır, konuşur gibi yazar.

Bu özellikler aşağıdaki metin türlerinden hangisine aittir?

- A) Denemeye
B) Makaleye
C) Anıya
D) Eleştiriye

9. "Çok yaşayan değil, çok gezen bilir." sözünün doğruluğunu ispatlamak için düştüm yollara. Gözlemlerim sadece gözlemekle sınırlı kalmadı. Her şeyi yazdım. Çünkü keşfetmek ve yazmak benim vazgeçemediğim iki tutkumdu.

Bunları söyleyen bir kişinin yazdığı tür aşağıdakilerden hangisidir?

- A) Makale
B) Mektup
C) Günlük
D) Gezi yazısı

10. I. Hatıra, roman, gezi yazısı türündeki eserlerde günlükten yararlanılabilir.
II. Nesnellik hâkimdir ve dil göndergele işlevde kullanılır.
III. Yazar, okuyucuyu düşünerek günlük tutar.
IV. Anlatılanlar içtenlikle ifade edilir.
"Günlük" ile ilgili numaralanmış özelliklerden hangileri yanlıştır?

- A) I ve III.
B) II ve III.
C) II ve IV.
D) III ve IV.

11. Edebiyatımızın en önemli ve ünlü seyahatnamesi Evliya Çelebi'nin - - - - adlı eseridir. Ayrıca - - - - tarafından yazılan Paris Sefaretnamesi de bu türün özelliklerini taşıyan bir eserdir.

Bu parçada boş bırakılan yerlere sırasıyla aşağıdakilerden hangileri getirilmelidir?

- A) Mirat'ül Memalik – Koçi Bey
B) Keşfü'z Zünun – Sehi Bey
C) Seyahatname – Yirmisekiz Çelebi Mehmet
D) Frankfurt Seyahatnamesi – Latifi

12. • İlk resmî gazete Takvim-i Vakayi'dir.
• İlk yarı resmî gazete Ceride-i Havadis'tir.
• İlk özel gazete Tasvir-i Efkâr'dır.

Bu cümleler doğru-yanlış olarak değerlendirildiğine sıralama aşağıdakilerden hangisi olur?

- A) D – Y – Y
B) D – D – Y
C) Y – Y – D
D) Y – D – Y

13. Aşağıdaki eserlerden hangisi biyografi türünde değildir?

- A) Tek Adam
B) Dertli Dolap
C) İkinci Adam
D) Kırk Yıl

14. • Amacı bilgi vermek, bir toplumu ilgilendiren bir düşünceyi geniş halk kitlelerine yaymaktır.

- Öne sürülen düşünce; araştırma ve belgelere dayandırılarak kanıtlanmaya çalışılır.
• Genellikle gazete ve dergilerde yayımlanan yazılardır.

Bu özellikler aşağıdaki türlerin hangisine aittir?

- A) Makaleye
B) Fıkraya
C) Sohbeta
D) Eleştiriye

15.

	Kavramlar	Açıklamalar
I	Sürmanşet	Şişirme haber.
II	Tekzip	Yalanlama.
III	Asparagas	Gazetelerin birinci sayfasındaki logonun üzerinde kullanılan başlık.
IV	Muhabir	Basın ve yayın organlarına haber toplayan kimse.

Bu tabloda numaralanmış hangi kavramların yeri değiştirilirse tablodaki yanlışlık giderilmiş olur?

- A) I ve II.
B) I ve III.
C) II ve IV.
D) III ve IV.

16. Ankara Üniversitesi Dil ve Tarih-Coğrafya Fakültesi Dekanlığına
ANKARA

Fakültenizin Türk Dili ve Edebiyatı Bölümü son sınıfında okuyan 103620 numaralı öğrencisiyim. Tarafıma öğrenci belgesi verilmesini istiyorum. Gereğini arz ederim.

Adres:

03.06.2014
İmza
Adı-Soyadı

Bu metin aşağıdakilerden hangisine örnektir?

- A) Resmî mektuba
B) Edebî mektuba
C) İş mektubuna
D) Özel mektuba

17. Reşat Nuri, 26 Kasım 1889'da İstanbul Üsküdar'da doğmuştur. Babası askerî doktorlardan Nuri Bey'dir. Annesi, eski Erzurum Valisi Yaver Paşa'nın kızı Lütfiye Hanım'dır. Asker çocuğu olduğu için Reşat Nuri'nin çocukluk ve talebelik yılları, daha çok, Anadolu vilayetlerinde geçmiştir. Bu arada da en çok Çanakkale ve İzmir'de bulunmuştur.

Bu parçanın türü aşağıdakilerin hangisidir?

- A) Otobiyografi
B) Anı
C) Günlük
D) Biyografi

3. OTURUM

18. Sanatçının söz konusu kitabında çatı, temel bir hikâye etrafında örülen başka hikâyelerle oluşturulmuş. Öykülerin konusu sanatçının muhteşem üslubuyla birleşince ortaya harika bir eser çıkmış. İnsan ruhunun el ve göz değmemiş yerlerindeki karanlıklar, hiçbir gerçeklik kaygısı taşımadan ama gayet gerçekçi bir temelde gözler önüne serilmiş.

Bu parça aşağıdaki türlerin hangisinden alınmıştır?

- A) Denemeden
B) Gezi yazısından
C) Eleştiriden
D) Haber yazısından

19. • Bir kimse ile konuşur gibi samimi bir üslupla yazılır.
• Herkesi ilgilendiren, hayatın içinden konuları işler.
• Düşüncenin kanıtlanması söz konusu değildir.

Bu özellikler aşağıdaki türlerin hangisi için söylenebilir?

- A) Eleştiri B) Makale
C) Sohbet D) Günlük

20. Edebiyatımızdaki ilk eleştiri eseri aşağıdakilerden hangisidir?

- A) Tahrir-i Harabat
B) Harabat
C) Takdir-i Elhan
D) Rümuz'ul Edeb

(406) DİL VE ANLATIM – 6

1. Ey benim namlı, şerefli, sadık emirlerim! İyi bilirsiniz ki üstünde durduğumuz şu memleket ve maliki olduğumuz devlet, nice müşkül muharebe ve mücadeler sonunda ecdadımız tarafından kazanılmış ve sonunda bize nasip olmuştur. Bugün sizlere derim ki canını feda etmeyen âşık vuslata nail olamaz. Vatan aşkı için nice kanlar döküldü, nice yaralar açıldı. Ama bu sayede nice müstahkem kaleler alındı.

Bu metnin türü aşağıdakilerden hangisidir?

- A) Mülakat B) Söyleşi
C) Söylev D) Röportaj

2. Sezai Karakoç'un özelliklerinin anlatıldığı bir röportajın türü aşağıdakilerden hangisi olur?

- A) Bir yeri konu alan
B) Eşyayı konu alan
C) Bir olayı konu alan
D) İnsanı konu alan

3. Safranbolu'yu değişik özellikleriyle inceleyip kendi görüşleriyle destekleyerek bir yazı oluşturan ve bu yazıda çeşitli belgeler, fotoğraflar kullanan bir yazarın yazısı aşağıdaki türlerin hangisine örnek olur?

- A) Mülakata B) Röportaja
C) Makaleye D) Denemeye

4. Aşağıdakilerden hangisi röportaj türünde yazılmıştır?

- A) Son Kuşlar
B) Pembe İncili Kaftan
C) Yalnız Efe
D) Peri Bacaları

5. Söylevle ilgili aşağıdakilerden hangisi söylenemez?

- A) Söyleve dinleyicilerin ilgisini çekecek sözlerle başlanmalıdır.
B) Söylevci dilin özelliklerini iyi bilmelidir.
C) Dil; alıcıyı harekete geçirme, kanalı kontrol ve heyecana bağlı işlevde kullanılır.
D) Asıl amaç dinleyicilerde estetik zevk uyandırmaktır.

6. Aşağıdakilerden hangisi edebiyatımızda tanınmış mülakat yazarlarından biridir?

- A) Yahya Kemal Beyatlı
B) Cemal Süreya
C) Hikmet Feridun Es
D) Necip Fazıl Kısakürek

7. I. Sayılardan sonra sıra bildirmek için kullanılır.
II. Sıralı cümleleri birbirinden ayırmak için konur.
III. Kendisinden sonra örnek verilecek cümlelerin sonuna konur.

Numaralanmış cümlelerde aşağıdaki noktalama işaretlerinden hangisinin kullanım yeri verilmemiştir?

- A) Virgül (,)
B) İki nokta (:)
C) Noktalı virgül (;)
D) Nokta (.)

8. Aşağıdaki sözcüklerin hangisinde ses türemesi vardır?

- A) Gönümüzün
B) Affediyorum
C) Başlıyorlar
D) Küçücük

9. I. Onunla park da buluşmak üzere sözleştik.
II. Soruyu bilse de bilemese de önemli değil artık.
III. Akşam sinemaya Onur da gelecekmış.
IV. Bu ev kiralık da satılık da değil.

Numaralanmış cümlelerin hangisinde "de"nin yazımıyla ilgili bir yanlışlık yapılmıştır?

- A) I. B) II. C) III. D) IV.

10. Aşağıdaki cümlelerin hangisinin sonuna üç nokta(...) getirilmelidir?

- A) Gençler, bu ülkeyi sizler yücelteceksiniz
B) Çocuk bir şeyini kaybetmiş gibi sürekli ağlıyor, ağlıyor
C) Bunun böyle olacağını neden bana söylemediniz
D) Yağmurun hemen ardından güneş yüzünü gösterdi

11. – “Kedimin Adı Çamur” sizin ilk çocuk kitabınız. Çocuklar için kitap yazmaya nasıl karar verdiniz?
– Yola çıkışım, çocuk kitabı yazmak değildi aslında. Çamur'un ölümü hepimizi derinden etkiledi.
– Kedilerin kişilikleri roman kahramanını olmaya çok elverişli değil mi?
– Evet! Her insan gibi kedi de bir roman kahramanı olabilir!

Bu parça aşağıdakilerin hangisine örnektir?

- A) Eleştiriye B) Denemeye
C) Makaleye D) Mülakata

12. Okula gittiğimizde beklenmedik bir sürprizle karşılaştık.

Bu cümledeki anlatım bozukluğunun nedeni aşağıdakilerden hangisidir?

- A) Gereksiz sözcük kullanımı
B) Yanlış anlamda sözcük kullanımı
C) Sözcüğün yanlış yerde kullanılması
D) Çatı uyumsuzluğu

13. Röportajın ortaya çıkışı ve gelişimi aşağıdakilerin hangisinin yaygınlaşmasıyla olmuştur?

- A) İnternet B) Gazete
C) Televizyon D) Radyo

3. OTURUM

14. Aşağıdaki sözcüklerden hangisine ünlü ile başlayan bir ek getirildiğinde sözcükte ünlü düşmesi olur?

- A) Kesim B) Bakım
C) Cisim D) Yazım

15. Kardeşlerim, evlatlarım!
Ruhu göklerde olan ecdadımız, minarelerimizden yedi yüz yıllık şanlı Osmanlı tarihinin bugünkü faciasını seyrediyor. Bu tarihî, muazzam meydana zafer alayları yapan kahraman ecdadımızın ruhları karşısında, dünyanın bir başından bir başına at süren o namağlup erlerin gazapları karşısında başımı kaldırıyor ve özgürlük için haykırıyorum: "İleri!"

Bu parça aşağıdakilerden hangisine örnektir?

- A) Askerî söyleve
B) İktisadi söyleve
C) Akademik söyleve
D) Hukuksal söyleve

16. Ünlü kişilerin çeşitli yönlerini tanıtmak veya toplumu ilgilendiren önemli bir konuyu aydınlatmak için ünlü kişilerle, uzmanlarla yapılan görüşmeleri sorulu-cevaplı olarak aktaran yazılardır.

Bu parçada tanımı yapılan tür aşağıdakilerden hangisidir?

- A) Söylev B) Deneme
C) Röportaj D) Mülakat

17. Aşağıdakilerden hangisi Latin edebiyatının önemli söylevcilerinden biridir?

- A) Demosthenes (Demostenes)
B) Cicero (Çiçero)
C) Bossuet (Bosse)
D) Mirabeau (Mirabu)

18. Aşağıdaki cümlelerin hangisinde yazım yanlışı yapılmıştır?

- A) Koskocaman adamlardık ama yüreğimiz çoktu.
B) Bakıp da imrenmemek ne mümkün şu güzel manzaraya?
C) Ağlasam sesimi duyarmısınız mısralarımda?
D) Buranın doğası ilçeninki gibi güzel değil.

19. Aşağıdaki sanatçı - eser eşleştirmelerinden hangisi yanlıştır?

- A) Fikret Otyam – Bugün de Diyorlar ki
B) Mustafa Baydar – Edebiyatçılarımız Ne Diyorlar
C) Yaşar Kemal – Bu Diyar Baştan Başa
D) Nurullah Berk – Ustalarla Konuşmalar

20. Ülkemizde toplanma ve söz hürriyetinin sağlandığı - - - - sonra söylev türü görülmeye başlanmıştır.

Bu cümlede boş bırakılan yere aşağıdakilerden hangisi getirilmelidir?

- A) II. Meşrutiyet'ten
B) Tanzimat'tan
C) Lale Devri'nden
D) Cumhuriyet'ten

(413) TÜRK EDEBİYATI – 3

1. Aşağıdakilerden hangisi edebiyat tarihinin sağladığı yararlarından değildir?

- A) Tarihî olayların nedenlerini ve sonuçlarını öğretir.
B) Değişik çağlardaki kültür birikimini tanıtır.
C) Toplumun değişen düşünce yapısını, dünya görüşünü yansıtır.
D) Edebiyatın geçirdiği dönemleri anlatır.

2. İslamiyet Öncesi Türk Edebiyatı ile ilgili aşağıdaki bilgilerden hangisi yanlıştır?

- A) Şairlere şaman, baksı, kam gibi adlar verilmiştir.
B) Yazılı eser verilmemiştir.
C) Koşuklar kopuz adı verilen bir saz eşliğinde söylenmiştir.
D) Sözlü ürünler düzyazı şeklinde değildir.

3. Türk edebiyatının gelişip değişmesinde aşağıdaki olaylardan hangisinin etkisi en azdır?

- A) Orta Asya'dan Anadolu'ya doğru göç edilmesi
B) Tanzimat Dönemi'nde Batı'nın örnek alınması
C) Osmanlı Devleti'nin kurulması
D) İslamiyet'in kabul edilmesi

4. Aşağıdakilerden hangisi sagu ile koşuk arasındaki farktır?

- A) Uyak düzeni B) Nazım birimi
C) Ölçü D) Konu

5. Aşağıdakilerden hangisi İslamiyet sonrası Türk destanlarından?

- A) Göç
B) Şu
C) Cengiz Han
D) Bozkurt

6. Aşağıdaki yazarlardan hangisi edebiyat tarihi alanında çalışma yapmamıştır?

- A) Nihat Sami Banarlı
B) Faruk Nafiz Çamlıbel
C) Ahmet Hamdi Tanpınar
D) Mehmet Fuat Köprülü

7. Ben, bizim konaktan Nafi Paşaların konağına sütunları gümüşten, kafesleri altın tellerden bir tahtırevan içinde, önüm sıra çalparalar çalınarak gitmişim. Laleli'den Vefa'ya kadar geçtiğim yollarda halk öbek öbek sokaklara dökülmüş, at arabalarıyla geçen düğün alayımı seyretmişti. Kaynatamın divanhanesindeki koltuk töreninin geçit resmi ise ayrı bir ihtişama sahipti.

Bu parçadan hareketle olayların anlatıldığı döneme ilişkin aşağıdakilerden hangisiyle ilgili bilgilere ulaşılamaz?

- A) Mimari yapılar
B) Ulaşım araçları
C) Tarihî olaylar
D) Gelenekler

8. Oğuz Kağan Destanı'nı yazıya geçiren kişi aşağıdakilerden hangisidir?

- A) Cüveyni
B) Reşidüddin
C) Yirmisekiz Mehmet Çelebi
D) Kül Tigin

9. Murat, toprağı sürdükten sonra hemen sabanı yerine bıraktı ve hayvanları ahıra soktu. Sonra vakit kaybetmeden odasına gitti. En çok, ertesi gün yavuklusuna mektubu nasıl ulaştıracağı kurcalıyordu zihnini. "Akkepter Türküsü" nün sözlerini ekledi mi tamamdı mektup. Acaba yavuklusu ne derdi buna? Meğer aşk mektubu yazmak ne zormuş?

Bu parçadan olayların anlatıldığı dönemle ilgili aşağıdakilerden hangisiyle ilgili bilgilere ulaşamayız?

- A) Sanat B) Tarım
C) Haberleşme D) Eğlence

3. OTURUM

10. İlyada ve Odyssea destanını yazıya geçiren sanatçı aşağıdakilerden hangisidir?

- A) Homeros B) Firdevsi
C) Sophokles D) Çiçero

11. Göktürk Kitabeleri'nin yazarı aşağıdakilerden hangisidir?

- A) Kül Tigin
B) Yollug Tigin
C) Kaşgarlı Mahmut
D) Aprunçur Tigin

12. Yirmisekiz Mehmet Çelebi elçi olarak gittiği Fransa'da sarayları, kaleleri, operayı, hayvanat ve botanik bahçelerini, ayna fabrikasını ve matbaayı inceler. Bir yıl sonra ülkesine dönen Mehmet Çelebi, izlenimlerini yazdığı eserini padişah ve sadrazama sunar.

Yirmisekiz Mehmet Çelebi'nin yazdığı eserin türü aşağıdakilerden hangisidir?

- A) Sefaretname B) Tezkire
C) Mesnevi D) Lügat

13. Aşağıdakilerden hangisi Türk edebiyatının dönemlere ayrılmasında kullanılan ölçütlerden biri değildir?

- A) Kültürel farklılaşma
B) Dil coğrafyası
C) Din anlayışı
D) Alfabe değişikliği

14. I. Tanzimat Edebiyatı
II. Millî Edebiyat
III. Fecriatî Edebiyatı

Numaralanmış edebiyat dönemlerinin gerçekleşme sırası aşağıdakilerden hangisidir?

- A) I – II – III B) I – III – II
C) III – I – II D) III – II – I

15. Birçok sanat eserine esin kaynağı olan Gilgamiş Destanı, - - - -'nin Tanrılar ve İnsanlar adlı oyununun konusunu oluşturmuştur.

Bu cümlede boş bırakılan yere aşağıdakilerden hangisi getirilmelidir?

- A) Orhan Asena
B) Nevit Kodallı
C) Agâh Sırrı Levent
D) Yahya Kemal Beyatlı

16. Aşağıdaki eser - sanatçı eşleştirmelerinden hangisi yanlıştır?

- A) Çakır'ın Destanı – Fazıl Hüsni Dağlarca
B) Kurtuluş Savaşı Destanı – Nazım Hikmet Ran
C) Seyran Destanı – Gülten Akın
D) Bozkurtların Destanı – Cahit Külebi

17. Kar buz tümü eridi
Dağların suları akıştı
Mavi bulut yükseldi
Kayık gibi sallanır

Günümüz Türkçesiyle verilen bu koşuk, konusuna göre aşağıdaki şiir türlerinden hangisine örnektir?

- A) Pastoral B) Epik
C) Didaktik D) Satirik

18. Uygurlar zamanında oluşmuş destanda inanış, vatan anlayışı ve devlet idaresi yönünden ilgi çekici önemli çizgiler vardır. Destanda vatandan bir parça toprak vermeye kalkmanın zamanla bütün yurdu yok edebilecek bir başlangıç olabileceği vurgulanmaktadır.

Bu parçada sözü edilen destan aşağıdakilerden hangisidir?

- A) Manas B) Koroğlu
C) Göç D) Ergenekon

19. Aşağıdakilerden hangisi Türk destanlarında kullanılan motiflerden değildir?

- A) Işık B) Maden
C) Ağaç D) Ejderha

20. Orhun Yazıtları ile ilgili olarak aşağıdakilerden hangisi söylenemez?

- A) Türklerin ilk yazılı eseri olduğu
B) Göktürkler Dönemi'ne ait olduğu
C) Sözlü ürünlerin yazıya geçirildiği ilk eser olduğu
D) Türkçenin gelişimini takip etmek açısından önemli bir eser olduğu

(416) TÜRK EDEBİYATI – 6

1. Aşağıdakilerden hangisi Cenap Şahabettin'in düzyazı türündeki eserlerinden biri değildir?

- A) Hac Yolunda
B) Avrupa Mektupları
C) Tâmat
D) Tiryaki Sözleri

2. Halit Ziya Uşaklıgil'in, anılarını kaleme aldığı eseri aşağıdakilerden hangisidir?

- A) Mai ve Siyah
B) Aşk-ı Memnu
C) Kırk Yıl
D) Ferdi ve Şürekası

3. Aşağıdakilerden hangisi edebiyatımızda nazmı nesre yaklaştıran sanatçılardan biridir?

- A) Mehmet Akif Ersoy
B) Ahmet Haşim
C) Yahya Kemal Beyatlı
D) Namık Kemal

4. • Sözcüklerle resim yapma amacıyla olan Cenap Şahabettin, Fransız parnasyenlerden etkilenir.
• Mehmet Rauf'un mensur şiir türündeki eserinin adı "Sansar"dır.
• Tevfik Fikret, "Şermin" adlı şiir kitabını çocuklar için yazmıştır.

Bu cümleler doğru-yanlış olarak değerlendirildiğinde sıralama aşağıdakilerden hangisi olur?

- A) D – Y – D B) Y – Y – D
C) D – D – Y D) Y – D – D

5. I. Düzyazı cümleleriyle yazılmış şiirlerdir.
II. Vezin, kafiye gibi ahenk öğelerine yer verilir.
III. Mensur şiir yazarın kişiyi duygularını daha rahat ifade eder.
IV. İlk olarak İngiliz edebiyatında ortaya çıkmıştır.

"Mensur şiir" ile ilgili olarak numaralanmış cümlelerin hangilerinde bilgi yanlışlığı yapılmıştır?

- A) I ve III. B) II ve III.
C) II ve IV. D) III ve IV.

6. Servetifünun Dönemi'nde şiirde - - - - ve - - - -; hikâye ve romanda - - - - etkili olmuştur.

Bu cümlede boş bırakılan yerlere sırasıyla aşağıdakilerden hangisi getirilmelidir?

- A) sembolizm – parnasizm – realizm
B) klasisizm – natüralizm – romantizm
C) sembolizm – klasisizm – parnasizm
D) romantizm – parnasizm – sembolizm

3. OTURUM

7. II. Abdülhamit Dönemi nazırlarından olan Naim Efendi geleneklere ve göreneklere bağlı olarak yetişen bir kişidir. Damadı Servet Bey, tam bir Batı hayranı ve eğlenceye düşkün bir kişidir. Naim Efendi'nin torunları Seniha ve Cemil de eskiyi beğenmeyen, eğlence düşkünü kişilerdir.

Bu parçada kahramanları tanıtılan roman aşağıdakilerden hangisidir?

- A) Ateşten Gömlek
- B) Çalıkuşu
- C) Yaban
- D) Kiralık Konak

8. "Yahya Kemal Beyatlı" ile ilgili aşağıdakilerden hangisi **yanlıştır**?

- A) Şiir dışında başka bir türde eseri yoktur.
- B) Türkçeyi aruza başarıyla uygulamıştır.
- C) Şarkı, gazel ve rubai türünde şiirler yazmıştır.
- D) Şiirlerinde Osmanlı tarihine özlem, İstanbul sevgisi, ölüm, deniz temalarını işlemiştir.

9. Maupassant tarzı hikâyeciliğin edebiyatımızdaki en önemli temsilcisi aşağıdakilerden hangisidir?

- A) Tevfik Fikret
- B) Halit Ziya Uşaklıgıl
- C) Ömer Seyfettin
- D) Mehmet Emin Yurdakul

10. Aşağıdakilerden hangisi fecriati topluluğunun kısa süre içinde dağılmasının sebeplerinden biri **değildir**?

- A) O dönemin büyük sanatçıların geride bırakacak derecede güçlü eserler ortaya koyamamaları
- B) Dillerinin sadelikten uzak olması
- C) Edebiyatımıza herhangi bir yenilik getirememeleri
- D) Dönemin siyasal baskıları nedeniyle şiir dışında bir türde eser vermemeleri

11. I. Çocuklar için ve heceyle yazdığı "Haluk'un Defteri" adlı kitabında sade bir dil kullandı.
II. Türkçeyi aruza ustalıklı uyguladı.
III. Şiirlerini Batı edebiyatlarında görülen sone, terza rima gibi nazım şekilleriyle yazdı.
IV. Romanlarında realizm akımının etkisi altında kaldı.

Numaralanmış cümlelerin hangilerinde "Tevfik Fikret" ile ilgili bilgi yanlıştır?

- A) I ve II.
- B) I ve IV.
- C) II ve III.
- D) III ve IV.

12. • Romanlarında ağır bir dil kullanmıştır.
• Olayları, gerçekten uzak bir bakış açısıyla işlemiştir.
• Roman ve hikâyeden başka bir türde eser vermemiştir.

"Halit Ziya" ile ilgili verilen bu cümleler doğru-yanlış bakımından değerlendirildiğinde sıralama aşağıdakilerden hangisi olur?

- A) Y – D – D
- B) D – Y – Y
- C) D – D – Y
- D) Y – D – Y

13. • 19. yüzyılın ikinci yarısından sonra parnasizme tepki olarak doğdu.
• Bu akımda doğa değil, onun insan ruhunda bıraktığı izlenimler anlatılır.
• Anlamda kapallığı sağlamak için mecaz ve çağırışlardan yararlanır.

Bazı özellikleri verilen edebî akım aşağıdakilerden hangisidir?

- A) Realizm
- B) Kübizm
- C) Fütürizm
- D) Sembolizm

14. Firdevs Hanım biraz doğruldu: Adnan Bey'in zihnine bu düşüncüyü koymak için pek çok sebep buldum fakat onu çıkarmak için bir sebep görmüyorum. Bihter cevap vermeden envel acı bir tebessümle baktı, sonra gözleri annesinin gözlerinde: Pekâlâ, siz de bilirsiniz ki bu evlilik mümkün değil, dedi.

Bu parça aşağıdaki romanların hangisinden alınmıştır?

- A) Eylül'den
- B) Mai ve Siyah'tan
- C) Çalıkuşu'ndan
- D) Aşk-ı Memnu'dan

15. Aşağıdakilerin hangisi Fecriati Topluluğu'nun edebiyatta gerçekleştirmek istediklerinden biri **değildir**?

- A) Dilin, edebiyatın ve diğer bilimlerin ilerlemesine katkı sağlamak
- B) Konuşma diliyle yazı dili arasında farkı ortadan kaldırmak
- C) Topluluk üyelerinin eserlerinden oluşan bir kütüphane kurmak
- D) Toplantılar düzenleyerek halkı edebiyat ve sanat konularında bilgilendirmek

16. ---; Osmanlı Devleti içinde yaşayan halk arasında dil, din, ırk ayrımı olmaksızın herkesin eşit haklara sahip olmasını savunan akımdır.

Bu cümlede boş bırakılan yere aşağıdakilerden hangisi getirilmelidir?

- A) Türkçülük
- B) İslamcılık
- C) Osmanlıcılık
- D) Batıcılık

17. Aşağıdaki sanatçılardan hangisinin roman türünde eseri **yoktur**?

- A) Reşat Nuri Güntekin
- B) Tevfik Fikret
- C) Halide Edip Adıvar
- D) Mehmet Rauf

18. I. Dilde sadeleşme anlayışı savunulmuş ve uygulanmıştır.
II. Divan edebiyatı nazım biçimleri tercih edilmiştir.
III. Ulusal ölçümüz olan hece kullanılmıştır.
IV. Romanlarda mekân İstanbul'la sınırlı kalmıştır.

Numaralanmış özelliklerin hangisi Millî Edebiyat Dönemi için söylenebilir?

- A) I ve III.
- B) I ve IV.
- C) II ve III.
- D) II ve IV.

19. • Hikâyelerinin konularını günlük yaşam, çocukluk anıları ve tarihten aldı.

- Hikâyelerinde hep olaya önem verdi.
- Öykülerini oldukça sanatlı ve gösterişli bir dille kaleme aldı.

"Ömer Seyfettin" ile ilgili bu cümleler doğru-yanlış bakımından değerlendirildiğinde sıralama aşağıdakilerin hangisi olur?

- A) D – D – Y
- B) D – Y – D
- C) Y – D – D
- D) Y – D – Y

3. OTURUM

20. Ahmet Haşim aşağıdaki edebî türlerin hangisinde eser vermemiştir?
- A) Roman B) Şiir
C) Fıkra D) Gezi yazısı

(426) FİZİK – 6

1. Aralarında d kadar uzaklık bulunan q_1 ve q_2 elektriksel yükleri birbirlerini etkileyecek konuma getirilip durduruluyor.

Buna göre yüklerin birbirlerine uyguladığı kuvvet ile ilgili;

- I. Yüklerin büyüklüğüne
II. Yükler arasındaki uzaklığa
III. Yüklerin bulunduğu ortama

niceliklerinden hangilerine bağlıdır?

- A) Yalnız I B) I ve II.
C) II ve III. D) I, II ve III.

2. Elektrik alan çizgileri ile ilgili;

- I. Çizgiler pozitif yükten dışa doğrudur.
II. Çizgiler negatif yükün merkezine doğrudur.
III. Elektrik alan çizgileri hiçbir zaman birbirlerini kesmez.

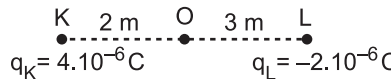
yargılarından hangileri doğrudur?

- A) I ve II. B) II ve III.
C) I ve III. D) I, II ve III.

3. Aralarında d kadar uzaklık olan iki noktasal yükün birbirlerine uyguladığı elektriksel kuvvet F 'dir.

Aralarındaki uzaklık $2d$ olunca elektriksel kuvvet kaç F olur?

- A) $\frac{F}{4}$ B) $\frac{F}{2}$
C) F D) $2F$

4. 

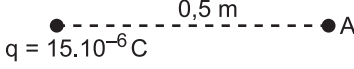
Noktasal K ve L yüklerinin O noktasında oluşturdukları bileşke elektrik alan şiddeti kaç N / C dur?

($k = 9.10^9 \text{ Nm}^2 / \text{C}^2$)

- A) 3.10^3 B) 7.10^3
C) 11.10^3 D) 14.10^3

5. $+1C$ 'luk deneme yükünü sonsuzdan elektrik alan içerisindeki bir noktaya getirmek için elektriksel kuvvetlere karşı yapılan iş, aşağıdakilerden hangisi ile tanımlanır?

- A) Mekanik enerji
B) Elektriksel potansiyel
C) Manyetizma
D) Sığa

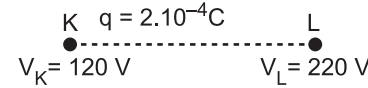
6. 

Yükü 15.10^{-6} C olan kürenin 0.5 m uzaklığındaki A noktasının potansiyeli kaç volt'tur?

($k = 9.10^9 \text{ Nm}^2 / \text{C}^2$)

- A) 14.10^4 B) 27.10^4
C) 45.10^4 D) 52.10^4

7. Yükü 2.10^{-4} C olan şekildeki küre, potansiyeli 120 V olan K noktasından 220 V olan L noktasına getirilmek isteniyor.



Buna göre yapılan iş kaç joule'dür?

- A) 2.10^{-2} B) 4.10^{-2}
C) 6.10^{-2} D) 8.10^{-2}

8. Sığaçlar:

- I. Silindirik
II. Küresel
III. Düzlem

geometrik yapılarından hangileri ile ifade edilir?

- A) Yalnız I B) II ve III.
C) I ve II. D) I, II ve III.

9. Sığaçların (kondansatörlerin) yük depolama kapasitesi (sığası)

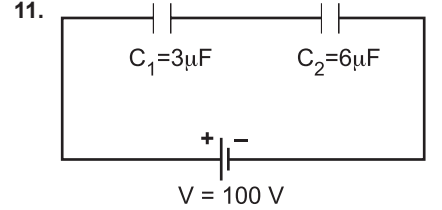
- I. Armatürlerin alanına (A)
II. Armatürlerin aralarındaki mesafeye (d)
III. Levhalar arasındaki ortama (ϵ)

ifadelerinden hangilerine bağlıdır?

- A) Yalnız I B) II ve III.
C) I ve III. D) I, II ve III.

10. Sığaları $4 \mu\text{F}$, $6 \mu\text{F}$, $12 \mu\text{F}$ olan üç sığaç seri bağlandığında eş değer sığa kaç μF olur?

- A) 1 B) 2 C) 4 D) 22



Sığaları verilen şekildeki sığaçlardan C_1 sığasının potansiyel farkı kaç volt'tur?

($1\mu\text{F} = 10^{-6}\text{F}$)

- A) $\frac{100}{3}$ B) $\frac{200}{3}$
C) $\frac{400}{3}$ D) $\frac{500}{3}$

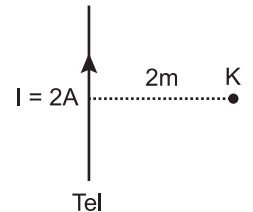
12. Günlük yaşantımızda kullanılan bazı aletler aşağıda verilmiştir.

- I. Bilgisayar
II. Televizyon
III. Cep telefonu

Bu aletlerden hangilerinde kondansatör vardır?

- A) Yalnız I B) II ve III.
C) I ve II. D) I, II ve III.

13. Şekildeki tel parçasının üzerinden 2 A büyüklüğünde akım geçmektedir.

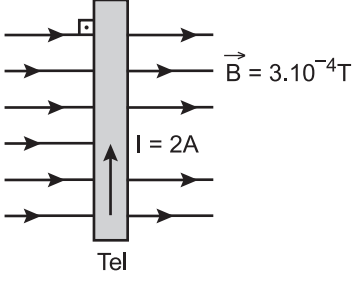


Buna göre 2 m uzaklıktaki K noktasında oluşan manyetik alan şiddeti kaç Wb / m^2 dir? ($K = 10^{-7} \text{ N} / \text{A}^2$)

- A) 2.10^{-7} B) 3.10^{-7}
C) 5.10^{-7} D) 7.10^{-7}

3. OTURUM

14. Üzerinden 2 A akım geçen 5 cm uzunluğundaki tel $3 \cdot 10^{-4}$ Tesla şiddetindeki manyetik alanın içine şekildeki gibi dik yerleştiriliyor.



Buna göre manyetik alan içindeki tele etki eden kuvvet kaç N'dur?

- A) 10^{-5} B) $2 \cdot 10^{-5}$
C) $3 \cdot 10^{-5}$ D) $6 \cdot 10^{-5}$

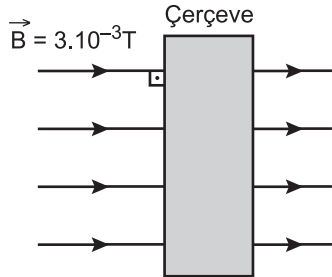
15. Manyetik alana (B) dik olarak ϑ hızıyla giren q yüküne etki eden kuvvet (F) aşağıdaki hangi bağıntıya eşittir?

- A) $F = \frac{q \cdot \vartheta}{B}$ B) $F = q \cdot \vartheta \cdot B$
C) $F = \frac{1}{2} \frac{q\vartheta}{B}$ D) $F = 2q \cdot \vartheta \cdot B$

16. Mekanik enerjiyi elektrik enerjisine dönüştüren araç aşağıdakilerden hangisidir?

- A) Elektrik motoru
B) Termometre
C) Dinamo
D) Mıknatıs

17. Manyetik alan şiddeti $3 \cdot 10^{-3}$ T olan düzgün bir manyetik alan içine, yüzey alanı $4 \cdot 10^{-2}$ m² olan çerçeve şekildeki gibi manyetik alan çizgilerine dik olacak şekilde konulmuştur.



Buna göre çerçevede meydana gelen manyetik akı kaç Wb olur?

- A) $12 \cdot 10^{-5}$ B) $18 \cdot 10^{-5}$
C) $24 \cdot 10^{-5}$ D) $28 \cdot 10^{-5}$

18. Günlük yaşamımızda kullandığımız bazı ev aletleri aşağıda verilmiştir.

- I. Ütü
II. Elektrikli su ısıtıcıları
III. Çamaşır makinesi

Bunlardan hangileri alternatif akımla çalışır?

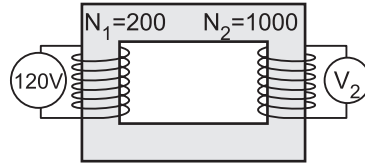
- A) I ve II. B) II ve III.
C) I ve III. D) I, II ve III.

19. I. Cep telefonu şarj cihazında
II. Şarjlı süpürgelerde
III. Dinamometrelerde

Yukarıdakilerin hangilerinde düşürücü tip transformatörler kullanılır?

- A) I ve II. B) II ve III.
C) I ve III. D) I, II ve III.

20. Sarımları üzerinde yazılı ideal transformatörler şekildeki gibidir.



Transformatörlerden birincil sarımlara 120 V potansiyel fark uygulandığına göre ikincil sarımlardan elde edilen potansiyel fark kaç V'tur?

- A) 120 B) 300 C) 600 D) 800

(427) FİZİK – 7

1. Bazı hareket örnekleri aşağıda verilmiştir.

- I. Dönme dolabın hareketi
II. Havayı soğutan vantilatörün hareketi
III. Çamaşır makinesinin kazanının hareketi

Bu hareketlerden hangileri düzgün çembersel harekete örnek olabilir?

- A) Yalnız I B) I ve II.
C) II ve III. D) I, II ve III.

2. Periyodu 1 s olan bir hareketlinin frekansı kaç s⁻¹ dir?

- A) 0,5 B) 1 C) 1,5 D) 2

3. Yarıçapı 0,5 m olan bir tekerin açışal hızı 6 rad/s dir.

Buna göre bu tekerin çizgisel hızı kaç m/s dir? ($\pi = 3$ alınız)

- A) 2 B) 2,5 C) 3 D) 3,5

4. Yarıçapı 0,1 m olan bir teker 2 m/s lik çizgisel hızla döndürülmektedir.

Buna göre bu tekerin merkezci ivmesi kaç m/s²'dir.

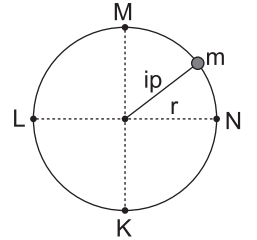
- A) 40 B) 30 C) 20 D) 10

5. Uzunluğu ℓ olan bir ipin ucuna kütlesi m olan bir cisim bağlanarak yatayda sabit 2ϑ hız ile döndürülüyor.

Buna göre cisme uygulanan merkezci kuvvet kaç $\left(\frac{m\vartheta^2}{\ell}\right)$ kadardır?

- A) 2 B) 3 C) 4 D) 5

6. Kütlesi m olan cisim şekildeki gibi r yarıçaplı yörüngede ip ile düşey düzlemde düzgün çembersel hareket yapıyor.



Buna göre cismin hareketi sırasında K, L, M ve N noktalarından geçerken ipteki gerilme en büyük hangi noktada oluşur?

- A) K B) L C) M D) N

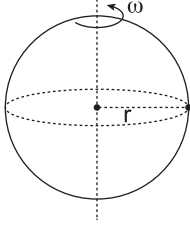
7. Yarıçapı r, sürtünme katsayısı k olan yatay viraja ϑ çizgisel hızı ile bir araç giriyor.

Buna göre aracın virajı güvenli bir şekilde dönmesi için aşağıdaki eşitliklerden hangisi olmalıdır? (g: yerçekim ivmesi)

- A) $\vartheta^2 \geq k \cdot g \cdot r$ B) $\vartheta \geq k \cdot g \cdot r$
C) $\vartheta^2 \leq k \cdot g \cdot r$ D) $\vartheta \leq k \cdot g \cdot r$

3. OTURUM

8. Şekilde m kütleli r yarıçaplı küre, merkezinden geçen eksen etrafında ω açısal hızı ile döndürülüyor.



Buna göre bu küre için eylemsizlik momenti (I)

- I. m kütleline
- II. r yarıçapına
- III. ω açısal hızına

niceliklerinden hangilerine bağlıdır?

- A) Yalnız I B) I ve II.
C) II ve III. D) I, II ve III.

9. Dönme ve öteleme hareketi yapan cismin toplam kinetik enerjisi

- I. Cismin çizgisel hızına
- II. Cismin kütleline
- III. Cismin eylemsizlik momentine

niceliklerinden hangilerine bağlıdır?

- A) Yalnız I B) I ve II.
C) II ve III. D) I, II ve III.

10. Basit harmonik hareket ile ilgili;

- I. Bir denge noktasına göre periyodik olarak yapılan gidip gelme hareketine titreşim hareketi denir.
- II. Cismin, denge noktasından uzaklaştığı en büyük mesafeye genlik denir.
- III. Cismin, herhangi bir andaki denge noktasına olan uzaklığına periyot denir.

yukarıda verilen tanımlardan hangileri doğrudur?

- A) Yalnız I B) I ve II.
C) II ve III. D) I, II ve III.

11. Ağırlığı önemsenmeyen 200 gramlık bir cisim 0,4 m uzunluğundaki ipin ucuna bağlanarak basit sarkaç yapılıyor. Cisim denge konumunda bir miktar çekilip bırakıldığında basit harmonik hareket yapıyor.

Buna göre cismin periyodu kaç saniye olur?

($\pi = 3$ ve $g = 10 \text{ m/s}^2$ alınacak ve sürtünmeler önemsenmeyecektir.)

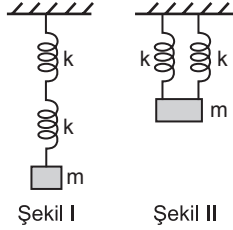
- A) 1,2 B) 1 C) 0,6 D) 0,5

12. Kütleli 2 kilogram olan bir cisim yay sabiti 200 N/m olan yayın ucuna bağlanıyor. Yay bir miktar çekilip bırakıldığında yaya bağlı cisim basit harmonik hareket yapıyor.

Buna göre cismin periyodu kaç saniyedir? ($\pi = 3$ alınacak ve sürtünmeler önemsenmeyecektir.)

- A) 0,2 B) 0,3 C) 0,6 D) 1

13. Şekil I deki gibi özdeş yaylarla kurulan seri yay düzeneği, Şekil II deki gibi paralel bağlanarak her iki şekilde de basit harmonik hareket yaptırılıyor.



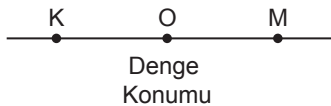
Buna göre;

- I. Paralel yaylardaki eş değer (k_{es}) yay sabiti seriye göre daha büyüktür.
- II. Paralel yaylardaki sistemin periyodu (T) seriye göre daha küçüktür.
- III. Seri yaylardaki sistemin frekansı (f) paralele göre daha büyüktür.

yargılarından hangileri doğrudur?

- A) Yalnız I B) Yalnız II
C) I ve II. D) I, II ve III.

14. Şekildeki gibi K ve M noktaları arasında basit harmonik hareket yapan bir cismin periyodu 10 saniyedir.



Buna göre; K noktasından harekete başlayan cisim 25. saniyede hangi nokta bulunur?

- A) M noktasında
B) O noktasında
C) K noktasında
D) OM arasındaki bir noktada

15. Şekilde $+2x$ ile $-2x$ noktaları arasında basit harmonik hareket eden bir cisim için denge noktası O noktasıdır.



Buna göre basit harmonik hareket yapan cisim için;

- I. K ve P noktalarında ivme maksimumdur.
- II. M noktasından geçerken hızın büyüklüğü en fazladır.
- III. K ve P noktalarında hızın büyüklüğü sıfırdır.

yargılarından hangileri doğrudur?

- A) Yalnız I B) Yalnız II
C) I ve II. D) I, II ve III.

16. Düzgün çembersel hareket yapan bir cismin çap üzerindeki iz düşümüne basit harmonik hareket denir.

Buna göre;

- I. Maksimum hız $V = \frac{2\pi r}{T}$ bağıntısı ile hesaplanır.
- II. Denge konumundan x kadar uzaklıktaki bir ara noktanın hızı $V = \omega \sqrt{r^2 - x^2}$ bağıntısı ile hesaplanır.
- III. Geri çağırıcı kuvvet $F = m \frac{v^2}{r}$ bağıntısı ile hesaplanır.

basit harmonik hareket için verilen bağıntılardan hangileri doğrudur?

- A) Yalnız I B) I ve II.
C) II ve III. D) I, II ve III.

17. Su dalgaları doğrusal ve dairesel olarak ikiye ayrılır.

Buna göre;

- I. Doğrusal su dalgalarının dalga boyu mertebesindeki bir yarıktan geçerken çemberselleşmesine kırınım denir.
- II. İki veya daha fazla dalganın üst üste binerek yeni bir dalga şeklindeki sonuç vermesine girişim denir.
- III. Girişim deseni üzerindeki noktaların kaynaklara olan uzaklık farkına dalga katarı denir.

su dalgalarının hareketi ile ilgili verilen tanımlardan hangileri doğrudur?

- A) Yalnız I B) I ve II.
C) II ve III. D) I, II ve III.

3. OTURUM

18. Işığın çeşitli fiziksel olaylardaki davranışı aşağıdaki tabloda verilmiştir.

	Fiziksel olay	Işığın davranışı
I.	Girişim	Dalga
II.	Kırınım	Dalga
III.	Fotoelektrik	Tanecik

Bu eşleştirmelerden hangileri doğrudur?

- A) Yalnız I
B) Yalnız II
C) I ve II.
D) I, II ve III.
19. Işık ile yapılan tek yarıktaki kırınım deneyine göre;

- I. Tek renkli ışıkla yapıldığında aydınlık ve karanlık saçak oluşur.
II. Kırınım olayı Huygens ikkesi ile açıklanır.
III. Tek yarıktaki girişim deseninde merkezi aydınlık saçak, karanlık saçaktan daha küçüktür.

yargılarından hangileri doğrudur?

- A) Yalnız I
B) Yalnız II
C) I ve II.
D) I, II ve III.

20. Işık ile yapılan çift yarıktaki girişim deneyine göre,

- I. Kaynakların uyumlu (koharent) olması gerekir.
II. Kaynakların tek renkli ışığa sahip olması gerekir.
III. Kaynakların farklı bir dalga boyuna sahip olması gerekir.

girişim deseni oluşması için yukarıdaki şartlardan hangileri olmalıdır?

- A) Yalnız I
B) Yalnız II
C) I ve II.
D) I, II ve III.

(428) FİZİK – 8

1. Atom ile ilgili bazı teoriler aşağıda verilmiştir.
- I. Democritus bütün maddelerin aynı taneciklerden meydana geldiğini
II. Aristo bütün maddeler hava, su, toprak ve ateş gibi elementlerin birleşiminden meydana geldiğini
III. John Dalton bir element, kimyasal bakımdan birbirinin aynı olan atomlar içerdiğini

Bu teorilerden hangileri atomun tarihsel gelişim sürecinde yer almıştır?

- A) Yalnız I
B) Yalnız II
C) I ve II.
D) I, II ve III.

2. Dalton atom modelinin ortaya koyduğu varsayımlara göre;

- I. Element, atom adı verilen küçük bölünemeyen taneciklerden oluşmuştur.
II. Bir elementin tüm atomlarının kütlesi ve diğer özellikleri aynıdır.
III. Bir element ile diğer bir elementin tüm atomlarının özellikleri aynıdır.

verilen ifadelerden hangileri doğrudur?

- A) Yalnız I
B) Yalnız II
C) I ve II.
D) I, II ve III.

3. Modern Atom fiziğine göre;

- I. Bir kuark ile anti kuarkin birleşimi ile baryonlar oluşur.
II. Atomlar, elektron, foton, ısı ve çarpışma ile uyarılır.
III. Bozonlar ve mezonlar fermiyonları oluşturur.

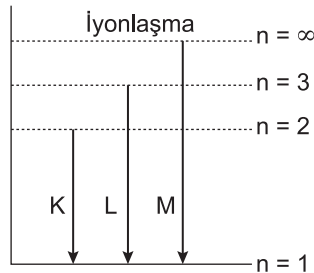
verilen ifadelerden hangileri doğrudur?

- A) Yalnız I
B) Yalnız II
C) I ve II.
D) I, II ve III.

4. Evrenin % 90'lık kısmını kaplayan, bilinen hiçbir fiziksel tanıma uymayan ve tamamen görünmez olan bu maddeye ne ad verilir?

- A) Saydam madde
B) Karanlık madde
C) Birleşik madde
D) Manyetik madde

5. Bir atoma ait enerji seviyeleri şekildedeki gibidir.



Buna göre K, L ve M ışıklarının f_K , f_L ve f_M frekansları arasındaki ilişki aşağıdakilerden hangisinde doğru verilmiştir?

- A) $f_M > f_L > f_K$
B) $f_K > f_L > f_M$
C) $f_K = f_L = f_M$
D) $f_K = f_L > f_M$

6. Atomlar;

- I. atomlarla
II. elektronlarla
III. Fotonlarla

hangileri ile uyarılabilirler?

- A) Yalnız I
B) I ve II.
C) II ve III.
D) I, II ve III.

7. Atomu üzümlü keke benzeten atom modeli aşağıdakilerden hangisidir?

- A) Dalton
B) Bohr
C) Thomson
D) Rutherford

8. Atom modellerine göre bazı özellikler aşağıda verilmiştir.

- I. Kimyasal bir bileşik iki yada daha fazla elementin basit bir oranda birleşmesi ile oluşur.
II. Atom küre şeklindedir.
III. Çekirdeğin etrafında dolanan elektronlar vardır.

Buna göre yukarıdaki özelliklerden hangileri Dalton atom modeline aittir?

- A) Yalnız I
B) Yalnız II
C) Yalnız III
D) II ve III.

9. Yapılan deneyler sonucunda proton ve nötronlar hangi atom altı parçacıklardan oluşur?

- A) Kuarklardan
B) Leptonlardan
C) Hadronlardan
D) Baryonlardan

10. Aşağıda bazı sınıflandırmalar yapılmıştır.

- I. Boryonlar
II. Mezonlar
III. Leptonlar

Buna göre hangileri Hadronlara aittir?

- A) Yalnız I
B) Yalnız II
C) Yalnız III
D) I ve II.

11. Fizikte bazı teori ve modeller aşağıda verilmiştir.

- I. Sonsuz evrenler teorisi
II. Açılır kapanır evren modeli
III. Kuantum yerçekimi modeli

Buna göre hangileri evrenin oluşumu ile ilişkilidir?

- A) Yalnız I
B) I ve II.
C) II ve III.
D) I, II ve III.

3. OTURUM

12. Atomların bazı özellikleri aşağıda verilmiştir.

- Atom çekirdeğindeki tanecikler arasındaki itme kuvveti çekme kuvvetinden daha büyüktür.
- Atom çekirdeğindeki tanecikler arasındaki çekme kuvveti itme kuvvetinden daha büyüktür.
- Radyoaktif değildir.

Buna göre bu özelliklerden hangileri kararlı atomlara ait bir özelliktir?

- A) Yalnız I B) I ve II.
C) II ve III. D) I, II ve III.

13. Aşağıda bazı olaylar verilmiştir.

- Kararsız büyük çekirdeklerin küçük kütleli çekirdeklere dönüşmesi
- İki hafif çekirdeğin birleşerek daha büyük kütleli çekirdeğe dönüşmesi
- Atom bombasında uranyum çekirdeklerinin bombardıman edilmesinde zincirleme reaksiyonların meydana gelmesi

Bu fiziksel olayların nükleer füzyon ve fisyon olayları ile eşleştirmeleri aşağıdakilerin hangisinde doğru verilmiştir?

	Füzyon	Fisyon
A)	I ve III	II
B)	II	I ve III
C)	III	I ve II
D)	I ve II	III

14. Michelson-Morley deneyi sonucunda

- Işığın uzayda yayılması için ortama gerek olmadığı
- Işık hızının tüm frekans sistemleri için aynı olduğu
- Hareket eden bir gözlemci ışık hızına yaklaştıkça hareket doğrultusundaki uzunlukları durgun uzunluğuna göre daha kısa ölçmesi

yargılarından hangilerine ulaşılmıştır?

- A) Yalnız I B) I ve II.
C) II ve III. D) I, II ve III.

15. Işıma yapan çekirdeğin kütle numarası değişmiyorsa bu çekirdek hangi ışımayı yapmıştır?

- A) Beta ışınması
B) Alfa ışınması
C) Beta ve gama ışınması
D) Alfa ve beta ışınması

16. Aşağıda fizik bilimindeki bazı kuramlar verilmiştir.

- Görelilik ilkesi
- Işık hızı sabittir
- Işığın tanecik ilkesi

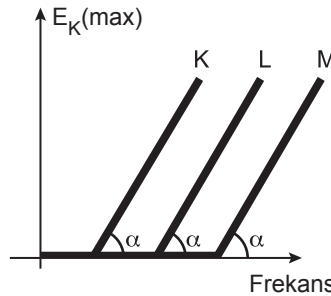
Bu kuramlardan hangileri Einstein'in izafiyet teorisinin ilkelere arasındadır?

- A) Yalnız I B) I ve II.
C) II ve III. D) I, II ve III.

17. Fotoelektrik olayda elektromanyetik dalgalar gönderilerek aşağıdaki hangi levhadan elektron koparılır?

- A) Alüminyum B) Sodyum
C) Karbon D) Demir

18. Bir fotoselin katoduna K, L ve M metalleri ayrı ayrı bağlanarak metal yüzeylere aynı frekanslı ışınlar gönderiliyor. Daha sonra fotoelektronların maksimum kinetik enerji-frekans grafiği şekildedeki gibi çiziliyor.



Buna göre, metallerin E_K , E_L ve E_M bağlanma enerjileri arasındaki ilişki aşağıdakilerin hangisinde doğru verilmiştir?

- A) $E_M > E_L > E_K$
B) $E_K > E_L > E_M$
C) $E_K = E_L = E_M$
D) $E_K = E_L > E_M$

19. Bir fotoselden kopan elektronlar 2 eV'luk maksimum kinetik enerji ile anoda çarpıyor.

Katot metalinde elektronların bağlanma enerjisi 3 eV olduğuna göre, fotonun enerjisi kaç eV'tur?

- A) 1 B) 3 C) 5 D) 7

20. Compton olayında

- enerji
- momentum
- moment

niceliklerinden hangileri korunur?

- A) Yalnız III B) I ve II.
C) II ve III. D) I, II ve III.

(433) KİMYA – 3

1. • Limon suyu

- Sirke
- Sabun

Yukarıda verilen maddelerin asit ya da baz oluşlarına göre sınıflandırılması hangisinde doğru verilmiştir?

Asit	Baz
A) Limon suyu	Sirke, sabun
B) Limon suyu, sirke	Sabun
C) Sabun, sirke	Limon suyu
D) Sabun, limon suyu	Sirke

2. Aşağıda verilen maddelerin hangisinin sulu çözeltisi asit özelliğindedir?

- A) NaOH B) NH_3
C) HNO_3 D) KOH

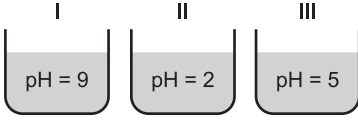
3. I. Genellikle tatları acıdır.
II. Sulu çözeltilerinde H^+ iyonu oluştururlar.
III. Kırmızı turnusol kağıdının rengini maviye çevirirler.

Yukarıda verilen özelliklerden hangileri bazlara aittir?

- A) Yalnız I B) Yalnız II
C) I ve III. D) II ve III.

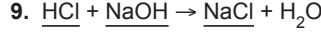
3. OTURUM

4. Aşağıda oda koşullarında hazırlanan çözeltilere ait pH değerleri verilmiştir.



Bu çözeltilerden hangileri asidik özellik gösterir?

- A) Yalnız II B) Yalnız III
C) I ve II. D) II ve III.
5. Aşağıdakilerden hangisinin sulu çözeltisine Fe (demir) metali atıldığında, H₂ (hidrojen) gazı açığa çıkar?
- A) HCl B) KOH
C) NH₃ D) NaOH
6. • H₂SO₄
• Ca(OH)₂
• HNO₃
• NH₃
- Yukarıda verilen maddelerin 25°C'ta hazırlanan sulu çözeltilerine kırmızı turnusol kağıdı daldırılıyor.
- Bu çözeltilerden kaç tanesi, turnusol kağıdının rengini maviye dönüştürür?**
- A) 1 B) 2 C) 3 D) 4
7. Halk arasında "Sud kostik" olarak bilinen madde aşağıdakilerden hangisidir?
- A) Sodyum hidroksit
B) Hidroklorik asit
C) Sülfürik asit
D) Amonyak
8. Aşağıda verilen özelliklerden hangisi asitler ve bazlar için ortak bir özelliktir?
- A) Elde kayganlık hissi uyandırır.
B) Sulu çözeltilerinde H⁺ iyonu oluştururlar.
C) Turnusol kağıdının rengini kırmızıya çevirirler.
D) Sulu çözeltilerinde iyonlaşırlar ve elektriği iletirler.



Yukarıda verilen nötrleşme tepkimesinde, altı çizilmiş maddelerin sınıflandırılması hangisinde doğru verilmiştir?

HCl	NaOH	NaCl
A) Baz	Asit	Tuz
B) Tuz	Baz	Asit
C) Asit	Baz	Tuz
D) Asit	Tuz	Baz

10. Halk arasında "alçı taşı" olarak bilinen kalsiyum sülfat tuzunun formülü aşağıdakilerden hangisidir?

A) CaSO ₄	B) K ₂ SO ₄
C) NaHCO ₃	D) Ca(NO ₃) ₂

11. Aşağıdakilerden hangisi çözelti değildir?

A) Tuzlu su	B) Hava
C) Çelik	D) Süt

12. Sis, duman, tozlu hava gibi katı veya sıvı fazdaki taneciklerin gaz fazı içerisinde dağılmasıyla oluşan heterojen karışımlara - - - - denir.

Verilen ifadeye boş bırakılan yere (- - - -) aşağıdakilerden hangisi yazılmalıdır?

A) süspansiyon
B) emülsiyon
C) aerosol
D) koloit

13. I. Sirke
II. Ayran
III. Mayonez
IV. Şekerli su

Verilenlerden hangileri homojen karışımdır?

A) I ve II.	B) I ve IV.
C) II ve III.	D) I, III ve IV.

14. 60 g yemek tuzunun 240 g suda çözünmesiyle oluşan çözeltideki yemek tuzunun kütlece yüzde derişimi kaçtır?

A) 50	B) 25	C) 20	D) 15
-------	-------	-------	-------

15. Hacimce % 40'lık 300 mL etanol-su çözeltisinde kaç mL etanol vardır?

A) 120	B) 75	C) 40	D) 30
--------	-------	-------	-------

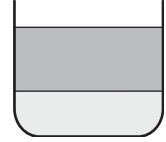
16. Aşağıda verilen çözeltilerin hangisi aynı koşullarda daha yüksek sıcaklıkta kaynamaya başlar?

A) Kütlece % 12'lik tuzlu su çözeltisi
B) Kütlece % 15'lik tuzlu su çözeltisi
C) Kütlece % 24'lük tuzlu su çözeltisi
D) Kütlece % 36'lık tuzlu su çözeltisi

17. Aşağıdakilerden hangisi yoğunluk farkından yararlanılarak geliştirilen ayırma yöntemlerindedir?

A) Damıtma	B) Süzme
C) Aktarma	D) Diyaliz

- 18.



Şekildeki karışımla ilgili verilen;

- I. Ayırma hunisi kullanılarak bileşenlerine ayrılabilir.
II. İki fazlı bir karışımdır.
III. Homojen bir karışımdır.

ifadelerinden hangileri doğrudur?

A) Yalnız II	B) I ve II.
C) II ve III.	D) I, II ve III.

19. Rafinerilerdeki petrol aşağıda verilen yöntemlerden hangisi ile bileşenlerine ayrılır?

A) Süzme
B) Çöktürme
C) Yüzdürme
D) Ayrımsal damıtma

20. () Sıvı-sıvı homojen karışımlar ayırma hunisi ile bileşenlerine ayrılabilirler.

- () Katı-sıvı heterojen karışımlar süzme yöntemi ile bileşenlerine ayrılabilirler.
() Çözeltiler homojen karışımlardır.

Yukarıda verilen bilgilerden doğru olanlar D, yanlış olanlar Y ile değerlendirilirse sıralama aşağıdaki-lerden hangisi gibi olur?

A) D, Y, D	B) D, D, D
C) Y, D, Y	D) Y, D, D

(434) KİMYA – 4

1. Aşağıda verilen enerji kaynaklarından hangisi fosil yakıt değildir?

- A) Kok kömürü B) Doğal gaz
C) Jeotermal D) Benzin

2. I. Güvenli bir şekilde saklanabilir.
II. Küresel ısınmaya sebep olur.
III. Fosil yakıtlar içinde en ucuz olanıdır.

Verilen ifadelerden hangileri kömürün yakıt olarak üstünlüklerindedir?

- A) Yalnız I B) I ve III.
C) II ve III. D) I, II ve III.

3. I. CH₄
II. C₂H₄
III. C₃H₄

Yukarıda verilen bileşiklerden hangileri 'alken' sınıfı bir hidrokarbondur?

- A) Yalnız I B) Yalnız II
C) I ve III. D) II ve III.

4. Aşağıdakilerden hangisi yakıt olarak kullanılan petrol ürünü değildir?

- A) Petrol eteri B) Benzin
C) Gaz yağı D) Mazot

5. Benzen bileşiği ile ilgili verilen bilgilerden hangisi yanlıştır?

- A) Kapalı formülü C₆H₆ şeklindedir.
B) Aromatik hidrokarbondur.
C) Kanserojen maddedir.
D) Suda iyi çözünür.

6. Aşağıdakilerden hangisi temiz enerji kaynaklarındanıdır?

- A) Güneş B) Fuel-Oil
C) Antrasit D) Linyit

7. Aşağıda verilenlerden hangisi bir polisakkarittir?

- A) Laktoz B) Nişasta
C) Maltoz D) Sakkaroz

8. Besinlerde bulunan nişastanın sindirimi sonucu elde edilen glikozun fazlası, hangi maddeye dönüştürülerek depo edilir?

- A) Glikojen B) Sakkaroz
C) Galaktoz D) Selüloz

9. İnsan vücudu aşağıdakilerden hangisini öncelikli enerji kaynağı olarak kullanır?

- A) Su B) Yağ
C) Karbonhidrat D) Protein

10. I. Proteinler vücudun yapı malzemesini oluşturur.
II. Proteinler 20 çeşit amino asitten oluşur.
III. Her amino asitin yapısında mutlaka amino (–NH₂) grubu bulunur.

Proteinlerle ilgili verilen ifadelerden hangileri doğrudur?

- A) Yalnız I B) I ve II.
C) II ve III. D) I, II ve III.

11. Bir laboratuvarında yapılan analiz sonucu dört farklı su örneğindeki Ca²⁺ (kalsiyum) iyonu miktarları tabloda verilmiştir.

Su Örneği	1 L sudaki Ca ²⁺ miktarı (mg)
1. örnek	4
2. örnek	18
3. örnek	15
4. örnek	7

Buna göre hangi su örneği diğerlerine göre daha serttir?

- A) 1. örnek B) 2. örnek
C) 3. örnek D) 4. örnek

12. Aşağıdakilerden hangisi su arıtımında uygulanan işlemlerden değildir?

- A) Florlama
B) Dinlendirme
C) Koagülasyon
D) Sertlik (kireç) giderme

13. I. Renklendiriciler
II. Koruyucular
III. Tatlandırıcılar

Yukarıda verilenlerden hangileri gıda katkı maddesi olarak kullanılır?

- A) Yalnız I B) Yalnız III
C) I ve III. D) I, II ve III.

14. Aşağıdakilerden hangisi yapay tatlandırıcı olarak kullanılır?

- A) Sakkaroz B) Glikoz
C) Aspartam D) Nişasta

15. Çamaşır suyunun kimyasal formülü aşağıdakilerden hangisidir?

- A) NaClO B) Na₂CO₃
C) NaOH D) NaCl

16. I. Kir çıkarma özellikleri vardır.
II. Yüzey aktif özellik gösterirler.
III. Bitkisel ve hayvansal yağlardan üretilirler.

Yukarıda verilen özelliklerden hangileri sabun ve deterjanlar için ortaktır?

- A) Yalnız I B) I ve II.
C) II ve III. D) I, II ve III.

17. Aşağıdakilerden hangisi doğal bir polimerdir?

- A) Protein B) Polietilen
C) Polistiren D) Polivinil klorür

18. • Çözücüler
• Nemlendiriciler
• Renk (boya) maddeleri
• Antimikrobiyal maddeler

Yukarıda verilenlerden kaç tanesi kozmetik ürün bileşenidir?

- A) 1 B) 2 C) 3 D) 4

19. Kurşun kalemın yazı ucu - - - - ve kil karışımından yapılır.

Verilen cümlede boş bırakılan yere (- - -) aşağıdakilerden hangisi yazılmalıdır?

- A) kalsiyum karbonat
B) magnezyum
C) kurşun
D) grafit

20. Aşağıda verilenlerden hangisi toprak kirliliğine neden olan etkenlerden değildir?

- A) Piller
B) Plastikler
C) Doğal gübreler
D) Endüstriyel atıklar

3. OTURUM

(435) KİMYA – 5

1. "Hidrojen atomunda yer alan elektron, üst enerji seviyelerinden $n = 2$ yörüngesine inerse görünür bölgede ışık yayınlar. Bu ışımaya serisine - - - - denir."
Yukarıdaki cümlede boş bırakılan (- - - -) yere aşağıdakilerden hangisi yazılmalıdır?

- A) Lyman serisi
B) Balmer serisi
C) Brackett serisi
D) Paschen serisi

2. Aşağıda verilen orbitallerden hangisinin enerjisi daha fazladır?

- A) 3p B) 4f C) 5s D) 6s

3. I. $_{10}\text{Ne}$ II. $_{12}\text{Mg}^{2+}$ III. $_{19}\text{K}^+$

Yukarıda verilen atom ve iyonlardan hangilerinin elektron dizilimleri aynıdır?

- A) I ve II. B) I ve III.
C) II ve III. D) I, II ve III.

4. $_9\text{F}$ elementi ile ilgili aşağıda verilen bilgilerden hangisi yanlıştır?

- A) Halojendir.
B) p bloğu elementidir.
C) Bir tane dolu orbitali vardır.
D) Yedi tane değerlik elektronu vardır.

5. Aşağıdaki iyonlardan hangisinin yarıçapı en küçüktür?

- A) $_7\text{N}^{3-}$ B) $_8\text{O}^{2-}$
C) $_{11}\text{Na}^+$ D) $_{13}\text{Al}^{3+}$

6. Aşağıda periyodik sistemde bulunan bazı grupların özel adları verilmiştir. Buna göre verilenlerden hangisi yanlıştır?

Grup numarası	Özel adı
A) 1A	Alkali metaller
B) 2A	Toprak metalleri
C) 7A	Halojenler
D) 8A	Asal gazlar (soygazlar)

Element	1.İ.E	2.İ.E	3.İ.E	4.İ.E
X	577,9	1820	2750	11600

Yukarıda X elementinin ilk dört iyonlaşma enerjisi (İ.E) kJ/mol olarak verilmiştir.

Buna göre X elementinin grup numarası aşağıdakilerden hangisidir?

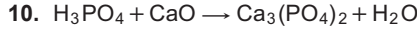
- A) 1A B) 2A C) 3A D) 4A

8. Bakır (II) oksit bileşiği aşağıdakilerden hangisidir?

- A) CuO B) Cu_2O
C) Cu_2O_2 D) CuO_2

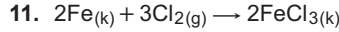
9. 0,2 mol SO_3 bileşiği kaç gramdır? (S: 32 g/mol, O: 16 g/mol)

- A) 80 B) 64 C) 48 D) 16



Tepkime denklemi en küçük tam sayılarla denkleştirildiğinde suyun katsayısı kaç olur?

- A) 1 B) 2 C) 3 D) 4



tepkimesi ile ilgili verilen;

- I. Redoks tepkimesidir.
II. Cl_2 yükseltgendir.
III. Fe indirgendir.

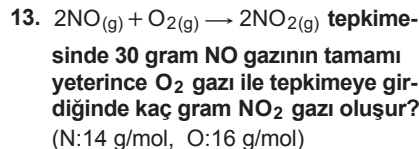
İfadelerinden hangileri doğrudur?

- A) I ve II. B) I ve III.
C) II ve III. D) I, II ve III.



Verilen tepkime denklemi aşağıdaki tepkime türlerinden hangisine örnek gösterilebilir?

- A) Yanma tepkimesi
B) Redoks tepkimesi
C) Asit-baz tepkimesi
D) Çözünme-çökeltme tepkimesi



- A) 30 B) 46 C) 60 D) 92

14. Karbon, hidrojen ve oksijen elementlerinden oluştuğu bilinen organik bir bileşiğin 88 gramında 48 gram karbon ve 32 gram oksijen elementi bulunmaktadır.

Bu bileşiğin basit formülü aşağıdakilerden hangisinde doğru olarak verilmiştir?
(H:1 g/mol, C:12 g/mol, O:16 g/mol)

- A) $\text{C}_2\text{H}_4\text{O}$ B) $\text{C}_3\text{H}_8\text{O}_3$
C) $\text{C}_5\text{H}_7\text{O}_2$ D) $\text{C}_4\text{H}_8\text{O}_2$

15. Aşağıda verilen birim dönüşümlerinden hangisi yanlıştır?

- A) 1 mL = 1 cm³
B) 1 bar = 10 Pa
C) 1 atm = 76 cmHg
D) 1 dm³ = 1000mL

16. Sabit basınç altında 6 litrelik bir gazın sıcaklığı 27°C 'tan 227°C 'a çıkarılırsa son hacmi kaç litre olur?

- A) 3,6 B) 7,5
C) 10 D) 28

17. 5,6 litrelik kapalı bir kaptaki 0°C 'ta bulunan 0,25 mol CO_2 gazının yapmış olduğu basınç kaç atm'dir?

- A) 0,001 B) 0,01
C) 0,1 D) 1

18. He ve SO_2 gazlarının sabit basınç ve sıcaklıktaki difüzyon hızlarının oranı aşağıdakilerden hangisidir? (He:4 g/mol, O:16 g/mol, S:32 g/mol)

- A) 4 B) 8 C) 12 D) 16

19. Bir gazın ideallik koşulları aşağıdakilerden hangisine bağlı değildir?

- A) Kabın şekli B) Gazın cinsi
C) Basınç D) Sıcaklık

20. Sabit hacimli kapalı bir kaptaki aynı sıcaklıkta 1 mol H_2 , 0,5 mol He ve 0,5 mol CH_4 gazları bulunmaktadır. H_2 gazının kısmi basıncı 4 atm olduğuna göre kaba yapılan toplam basınç kaç atm'dir?

- A) 2 B) 4 C) 6 D) 8

(445) BİYOLOJİ – 5

1. Işık enerjisinden yararlanarak inorganik maddelerden organik madde sentezi yapan canlı grubu aşağıdakilerden hangisidir?
- A) Heterotrof B) Fotoototrof
C) Fotosentez D) Ayrıştırıcı
2. I. Kıvrımlı bir yapıya sahip iç zara krista adı verilir.
II. İç zar stroma adı verilen yoğun bir sıvıyı çevreler.
III. Stroma içerisinde tilakoit denilen üçüncü bir zar sistemi mevcuttur.
Verilenlerden hangileri kloroplastın özelliklerindedir?
- A) Yalnız I B) I ve II.
C) II ve III. D) I, II ve III.
3. Aşağıdakilerden hangisi fotosentez hızına etki eden kalıtsal faktörlerden birisidir?
- A) Su B) Mineraller
C) Ortam pH'ı D) Enzim miktarı
4. Klorofil yapısında bulunan mineral madde aşağıdakilerden hangisidir?
- A) Magnezyum (Mg)
B) Kalsiyum (Ca)
C) Potasyum (K)
D) Mangan (Mn)
5. Mitokondrisi olmadığı için enerji ihtiyacını sadece laktik asit fermentasyonu ile karşılayan hücre aşağıdakilerden hangisine aittir?
- A) Epitel B) Nöron
C) Alyuvar D) Kas
6. Yağ asitleri oksijenli solunuma aşağıda verilenlerden hangisine dönüşerek katılır?
- A) Pirüvik asit
B) Asetil CoA
C) Krebsin ara ürünleri
D) Glikolizin ara ürünleri
7. Aşağıdakilerden hangisi oksijenli solunum ve fermentasyon olaylarının son ürünlerinden biri değildir?
- A) Su B) Etil alkol
C) Laktik asit D) Pirüvik asit

8. Aşağıdakilerden hangisinin yapımında etil alkol fermentasyonu yapan mayalardan yararlanır?
- A) Turşu B) Peynir
C) Ekmek D) Yoğurt
9. Sinir hücrelerinde (nöron) uyarı iletiminin yönü aşağıdakilerden hangisindeki gibidir?
- A) Dendritten aksone
B) Çekirdekten dendrite
C) Akson ucundan aksone
D) Hücre gövdesinden dendrite
10. Beyin zarlarının (Meningens zarları) dıştan içe doğru sıralanışı nasıldır?
- A) Sert zar – İnce zar – Örümceksi zar
B) İnce zar – Örümceksi zar – Sert zar
C) Örümceksi zar – Sert zar – İnce zar
D) Sert zar – Örümceksi zar – İnce zar
11. I. Akson çapı
II. Sinaps sayısı
III. Ranvier boğum sayısı
Verilenlerden hangilerinin artması impuls hızını artırır?
- A) Yalnız I B) I ve II.
C) I ve III. D) I, II ve III.
12. I. En iç kısımdaki beyin zarıdır.
II. Beyni zedelenmelere karşı korur.
III. Kan damarları ile beyin besin ve oksijen ihtiyacını karşılar.
Verilenlerden hangileri beyindeki ince zarın özellik ve görevlerindedir?
- A) Yalnız I B) I ve II.
C) I ve III. D) I, II ve III.
13. Aşağıdaki hormonlardan hangisi insanda kan şekerinin düşmesini sağlar?
- A) Glukagon B) İnsülin
C) Gastrin D) Sekretin
14. Aşağıdakilerden hangisi parasempatik sinirlerin etkisiyle meydana gelen bir değişmedir?
- A) Tükürük salgısının artması
B) Kalp atışlarının hızlanması
C) İdrar kesesinin genişlemesi
D) Mide hareket ve salgısının azalması

15. Aşağıdakilerden hangisi polio virüsünün yol açtığı bulaşıcı bir sinir sistemi rahatsızlığıdır?
- A) Kuduz B) Siyatik
C) Epilepsi D) Çocuk felci
16. Aşağıdakilerden hangisi insan vücudunun baş kısmında bulunan hormonal bir bezdir?
- A) Hipofiz
B) Pankreas
C) Eşeyssel bezler
D) Böbreküstü bezi
17. Aşağıdakilerden hangisi böbreküstü bezlerinden salgılanan bir hormon değildir?
- A) Kortizol B) Glukagon
C) Adrenalin D) Aldosteron
18. Melatonin hormonunun salgılandığı bez aşağıdakilerden hangisidir?
- A) Hipofiz B) Timüs
C) Tiroid D) Epifiz
19. Aşağıdaki duylardan hangisi talamusa uğramadan uç beyine iletilir?
- A) Tat B) İşitme
C) Koku D) Dokunma
20. Aşağıdakilerden hangisi dengenin sağlanması ile ilgili kulakta bulunan bir yapı değildir?
- A) Kesecik
B) Salyangoz
C) Tulumcuk
D) Yarım daire kanalları

(448) BİYOLOJİ – 8

1. Aşağıda verilen simbiyoz yaşam şekillerinden hangisi zorunlu mutualizme örnek gösterilir?
- A) Fil ile filin üzerinde yaşayan parazitleri yiyen kuş türü
B) Mantar ve algin oluşturduğu liken birliği
C) İnsan ile bağırsakta yaşayan tenya
D) Badem ağacı ile ökse otu

3. OTURUM

2. I. Funda-çalı evresi
II. Ot evresi
III. Liken evresi
IV. Yosun evresi
V. Ağaç evresi

Doğal bir ekosistemin birincil (primer) süksesyonunda gözlenen yukarıdaki evreler gerçekleşme önceliğine göre seçeneklerin hangisinde belirtildiği gibi sıralanır?

- A) II – I – III – V – IV
B) II – IV – V – III – I
C) III – IV – II – I – V
D) III – V – IV – II – I

3. Farklı popülasyonlara ait bireyler,

- I. Eş seçimi
II. Yaşam alanı
III. Besin

verilenlerin hangilerinden dolayı rekabete girmez?

- A) Yalnız I B) I ve II.
C) I ve III. D) II ve III.

4. S tipi popülasyon gelişme grafiği dikkate alındığında büyüme hızının maksimum olduğu evre aşağıdakilerden hangisinde belirtilmiştir?

- A) Kuruluş evresi
B) Negatif artış evresi
C) Logaritmik artış evresi
D) Denge evresi

5. Taşıma kapasitesine ulaşmış bir popülasyon için;

- I. Üreme hızı minimumdur.
II. Çevre direnci en azdır.
III. Rekabet değeri düşüktür.

verilenlerden hangileri doğrudur?

- A) Yalnız I B) Yalnız II
C) I ve III. D) II ve III.

6. Aşağıda verilen canlılardan hangisi dünya üzerinde nesli tükenme tehlikesi altında olan türlere örnek gösterilmez?

- A) Fil B) Lemur
C) Albatros D) Kutup ayısı

7. Aşağıda verilenlerden hangisi bir popülasyon örneği değildir?

- A) Kahramanmaraş Başkonuş Yaylası'ndaki ala geyikler
B) Bursa Uludağ'daki doğu kayınları
C) Ankara Kızılcahamam'daki ağaçlar
D) Mardin Mazıdağ'daki mazı meşeleri

8. Ekoton ile ilgili olarak;

- I. Popülasyona ait yaşam alanlarının geçiş bölgeleridir.
II. Tür çeşitliliği oldukça fazladır.
III. Rekabet oranı düşüktür.

verilenlerden hangileri doğrudur?

- A) Yalnız I B) I ve II.
C) I ve III. D) II ve III.

9. Aynı ekosistemde yaşayan vaşak ve tavşan için,

- I. Aralarında besin için rekabet yaşanır.
II. Tavşan sayısının artması vaşak sayısını da artırır.
III. Vaşak sayısının azalması tavşanı olumlu etkiler.

ifadelerinden hangileri doğrudur?

- A) Yalnız II B) I ve II.
C) I ve III. D) II ve III.

10. Kapalı ekosistem içerisinde yaşam sürdüren bir popülasyonun büyüme oranına aşağıdakilerden hangisi etki göstermez?

- A) Popülasyon içine olan göçler.
B) Doğum oranının artması
C) Salgın hastalık artışı
D) Besin kıtlığı

11. Hayatın başlangıcı ile ilgili abiyogenez hipotezi hangi bilim insanının görüşüdür?

- A) Haldone B) Miller
C) Pasteur D) Aristo

12. Heterotrof hipotezindeki kimyasal evrimde ilkel atmosfer gazlarından oluşan ilk madde aşağıdakilerden hangisidir?

- A) Proteinler
B) Aminoasitler
C) Nükleoproteinler
D) Koaservatlar (Ön hücre)

13. Hayatın ortaya çıkışı ile ilgili canlıların kendiliğinden değil, önceki atalarından oluştuğunu savunan görüş aşağıdakilerden hangisidir?

- A) Panspermia B) Abiyogenez
C) Heterotrof D) Biyogenez

14. • Sürüngenler devri olarak bilinen jeolojik zamandır.
• Ayrılan kıtalar nedeniyle canlı çeşitliliği artmıştır.
• İlk kozalaklı bitkilerin kurak bölgelerde ortaya çıktığı zamandır.
Yukarıda bazı özellikleri verilen jeolojik zaman dilimi aşağıdakilerden hangisidir?

- A) Senozoik
B) Paleozoik
C) Mezozoik
D) Kambriyen öncesi

15. Aşağıdakilerden hangisi yaradılış inancına göre doğru bir ifadedir?

- A) Canlılık başka gezegenlerden spor ve tohumlarla gelmiştir.
B) Tür çeşitliliği sabit olup, türler farklı zamanlarda ortaya çıkarılmıştır.
C) Canlılar kendi besinini kendi üreten ototrof canlılardan değişerek ortaya çıkmıştır.
D) Canlılar cansız maddeleri çok uzun süren kimyasal evrim sonucu meydana gelmiştir.

16. Aşağıdakilerden hangisi Hardy-Weinberg kuralına göre popülasyonun dengesini bozacak yönde etki eder?

- A) Mutasyonların olması
B) Doğal seçilimin olmaması
C) Çiftleşmenin rastgele olması
D) Popülasyonun kalabalık olması

17. I. Arkeyan
II. Hadeyan
III. Proterozoik

Verilen kambriyen öncesi zaman dilimlerinin kronolojik sırası aşağıdakilerden hangisinde doğru yapılmıştır?

- A) I – II – III B) II – I – III
C) I – III – II D) III – II – I

18. Vücutta kullanılan organların gelişeceğini, kullanılmayan organların köreleceği hatta kaybolacağı fikrini ortaya atan bilim insanı aşağıdakilerden hangisidir?

- A) Aristo B) Darwin
C) Malthus D) Lamarck

19. Bireylerde çevre şartlarının etkisiyle meydana gelen kalıtsal olmayan değişiklikler aşağıdakilerden hangisi ile ifade edilir?

- A) Varyasyon B) Mutasyon
C) Modifikasyon D) Adaptasyon

3. OTURUM

20. I. Brokoli bitkisi
II. İngiliz atları
III. Evcil köpek çeşitleri
Yukarıda verilen canlı örneklerinden hangileri yapay seçim uygulamaları sonucunda ortaya çıkmıştır?

A) Yalnız I B) I ve II.
C) I ve III. D) I, II ve III.

(452) ÇAĞ.TÜRK DÜN.TAR. – 2

1. Yumuşama politikasının ortaya çıkmasında en önemli etken, aşağıdakilerden hangisidir?

A) Kore Savaşı
B) Küba buhranı
C) NATO'nun Kuruluşu
D) Konvansiyonel (nükleer ve kimyasal olmayan) silahlardan nükleer silahlara geçiş

2. ABD, SSCB'nin Küba'ya yerleştiği füzeleri sökmeye karşılığında, aşağıdaki ülkelerin hangisindeki Jüpiter füzelerini sökmeyi kabul etmiştir?

A) Fransa B) Türkiye
C) Yunanistan D) Batı Almanya

3. Güney Vietnam, Kuzey Vietnam'ın saldırıları karşısında aşağıdaki hangi ülkeden yardım istemiştir?

A) ABD B) Çin
C) SSCB D) İngiltere

4. I. SSCB
II. Afganistan
III. Hindistan
IV. Pakistan

Keşmir Sorunu, yukarıdaki devletlerden hangilerini karşı karşıya getirmiştir?

A) I ve II. B) II ve III.
C) III ve IV. D) I, II ve IV.

5. Aşağıdakilerden hangisi, SSCB'nin Afganistan'ı işgali karşısında direnişin sembolü olmuştur?

A) Taliban
B) Mücahitler
C) Muhacirler
D) Kara Gömlekliler

6. Mısır ile İsrail arasında yapılan Camp David Antlaşmaları, aşağıdaki devletlerden hangisinin arabuluculuğu ile imzalanmıştır?

A) İngiltere B) Türkiye
C) SSCB D) ABD

7. Kara sularının deniz altındaki doğal uzantısına ne denir?

A) FIR hattı B) Kayalık
C) Platform D) Kıta sahanlığı

8. Türkiye ile Yunanistan arasında aşağıdaki konulardan hangisiyle ilgili bir sorun yaşanmamıştır?

A) Kıbrıs Adası
B) Osmanlı borçları
C) Nüfus Mübadelesi
D) Ege Kıta Sahanlığı

9. I. Türkiye
II. Azerbaycan
III. Ürdün
IV. Meksika

Verilenlerden hangileri, Kuzey Kıbrıs Türk Cumhuriyeti'nin kuruluşunu tanıyan devletlerdendir?

A) Yalnız I B) I ve II.
C) I, II ve III. D) I, II, III ve IV.

10. Kırım Özerk Cumhuriyeti aşağıdaki devletlerden hangisine bağlıdır?

A) Polonya B) Gürcistan
C) Ukrayna D) Azerbaycan

11. Türkiye'de 1960'lardan itibaren kırsaldan göç eden insanların var olan değerleri ile şehir kültürünün kaynaşmasının sonucunda ortaya çıkan yeni anlayış, aşağıdaki kavramlardan hangisiyle isimlendirilmiştir?

A) Rock and Roll B) Aranjman
C) Pop D) Arabesk

12. Afganistan'daki Taliban yönetiminin Kasım 2001'de yönetimden uzaklaştırılması sonrasında yeni hükümet, aşağıdakilerden hangisi tarafından kurulmuştur?

A) Yaser Arafat
B) Hamid Karzai
C) Aliye İzzetbegoviç
D) Bahtiyar Vahapzade

13. 1996 Ocak ayında, aşağıdaki hangi iki ülke arasında Ege Denizi'nde Kardak Krizi yaşanmıştır?

A) Türkiye ile Yunanistan
B) Türkiye ile Bulgaristan
C) Yunanistan ile Bulgaristan
D) KKTC ile Güney Kıbrıs Rum Yönetimi

14. • Tiflis

• Erivan
• Bakü
• Tahran

Yukarıda verilen başkent listesinde, hangi devletin başkenti yoktur?

A) Azerbaycan B) Ermenistan
C) Özbekistan D) Gürcistan

15. Bosna Savaşı'nı sona erdiren antlaşmanın adı, aşağıdakilerden hangisidir?

A) Dayton Antlaşması
B) Tlatelelco Antlaşması
C) Amsterdam Antlaşması
D) Saint Germain Antlaşması

16. Murat ve Karasu ırmaklarının birleşmesinden oluşan akarsuyumuz, aşağıdakilerden hangisidir?

A) Kızılırmak B) Sakarya
C) Dicle D) Fırat

17. Türkiye'de ilk renkli televizyon yayını hangi yıl başlamıştır?

A) 1960 B) 1984 C) 2000 D) 2005

18. Aşağıdakilerden hangisi 17 Ağustos depremi sonrasında ortaya çıkan sorunlardan biri değildir?

A) İş gücü kaybı
B) Can ve mal kaybı
C) Psikolojik sorunlar
D) İklim dengesinin bozulması

19. Aşağıdakilerden hangisi küresel sorunlar arasında sayılamaz?

A) Açlık B) Terör
C) Aile içi şiddet D) Küresel ısınma

20. Aşağıdaki hastalıklardan hangisinin insanlara bulaşmasında dişi anofel sivrisineklerinin rolü vardır?

A) Sıtma B) Verem
C) Hepatit D) Veba

(462) EKONOMİ – 2

1. "Yeterli bir kârın sağlanması" açıklaması, öncelikli olarak hangi başlık altında yer almalıdır?

- A) Girişimin İşlevleri
B) Girişimin Amaçları
C) Girişimin Sosyal Rolü
D) Girişimin Ekonomik Rolü

2. Kuruluşun, mevcut alacakları toplamı ile borçları arasındaki farkın, sermaye türü olarak ifade edilişi aşağıdakilerden hangisidir?

- A) Ekonomik anlamda sermaye
B) Hukuksal anlamda sermaye
C) Mali yönden sermaye
D) Muhasebe tekniği yönünden sermaye

3. Bir işletmenin ihtiyaç duyduğu ham madde için kullanacağı sermaye türü aşağıdakilerden hangisidir?

- A) Sınai sermaye
B) Zirai sermaye
C) Ticari sermaye
D) Değişmeyen sermaye

4. Aşağıda verilenlerden hangisi girişimcinin özelliklerinden biri değildir?

- A) Kâr amacı güder.
B) Üretime katılan sermaye için ücret öder.
C) Mal ve hizmet üretir.
D) Akılcı bir şekilde üretim faktörlerini sağlar.

5. Aşağıdakilerden hangisi verimliliğe etki eden genel etkenler içerisinde yer almaz?

- A) İşletmelerin kuruluş yeri
B) İşletmenin organizasyonu
C) İş yerinin durumu ve işe gidip gelme
D) İşletmedeki tekniğin yenileştirilmesi

6. I. Sermaye belirli sayıda hisselerle ayrılmıştır.
II. Şirketin sorumluluğu sınırsızdır.
III. Sermayenin göstergesi obligasyondur.
IV. Ortaklar sınırlı sorumludurlar.

Anonim şirketler ile ilgili yukarıda verilenlerden doğru olanlar, hangisinde birlikte verilmiştir?

- A) I ve II. B) II ve III.
C) I ve IV. D) III ve IV.

7. Aşağıdakilerden hangisi İktisadi Devlet Kuruluşlarından birisi değildir?

- A) ÇAY-KUR
B) T.C. Ziraat Bankası
C) Et ve Balık Kurumu
D) Devlet Malzeme Ofisi

8. Aşağıdakilerden hangisi müessesese değildir?

- A) Van Deri ve Kundura Sanayii
B) Ergani Bakır İşletmeleri
C) Garp Linyitleri İşletmesi
D) Et ve Balık Kurumu

9. Aşağıdakilerden hangisi millî gelirin fonksiyonel dağılımı arasında yer almaz?

- A) Faiz B) Ücret
C) Rant D) Servet

10. Aşağıdakilerden hangisi millî gelirin ifade ediliş şekillerinden biri değildir?

- A) Döviz üzerinden millî gelirin ifadesi
B) Yurt içi gelir olarak millî gelirin ifadesi
C) Millî gelirin sabit fiyatlarla ifade edilmesi
D) Millî gelirin cari piyasa fiyatlarıyla ifadesi

11. Tasarruf aşağıdakilerden hangisinin oluşumunu sağlar?

- A) Giderin B) Üretimin
C) Gelirin D) Sermayenin

12. Fizyokrat ekonomistlerce tarımsal faaliyetlerin üretken olarak kabul edilmesi görüşü aşağıda verilen üretim kavramlarından hangisini ifade etmektedir?

- A) Üretim madde meydana getirmektir.
B) Üretim değer meydana getirmektir.
C) Üretim ekonomik malların miktarını arttırmaktır.
D) Üretim ekonomik malların faydasını arttırmaktır.

13. Üretime, bilgisi ve yaratıcı nitelikleri ile katılan bir girişimcinin, elde edilen gelirden aldığı pay aşağıdakilerden hangisidir?

- A) Kâr B) Ücret
C) Faiz D) Rant

14. I. Nitelik belirleyen vasıtalar → Kamulaştırma
II. Nicelik belirleyen vasıtalar → İhracat
III. Yönlendirici vasıtalar → Nüfus planlaması
IV. Emredici vasıtalar → Çalışma süreleri

Yukarıda ekonomi politikasının hedefleri ile yapılan eşleştirmelerden doğru olanları hangi seçenekte verilmiştir?

- A) I ve IV. B) I ve III.
C) II ve IV. D) I, II ve III.

15. Gelir ile servet terimlerinin karşılaştırılmasına yönelik verilen bilgilerden hangisi doğrudur?

- A) Gelir statiktir.
B) Servet dinamik ve devingendir.
C) Gelir, bir kişinin aktif ve pasifi arasındaki farkı belirtir.
D) Kişinin hukuken tasarruf edebildiği değerlerin bütünüdür.

16. Aşağıda verilenlerden hangisi doğanın üretim üzerine etkilerinden biri değildir?

- A) Üretim faaliyetlerinin şeklinin değişmesi
B) İklimin insanların isteğini olumlu veya olumsuz etkilemesi
C) Tarım ve sanayi üretiminin tümünün belirlenmesi
D) Üretim faaliyetlerinde müteşebbin belirlenmesi

17. Bir bahçenin sulanması hangi emek grubu içinde yer alır?

- A) Subjektif emek
B) Uygulayıcı emek
C) Yaşatıcı emek
D) Yönetici emek

18. Malın tanımına yönelik verilen özelliklerden hangisi yanlıştır?

- A) Mal kavramı ihtiyaç ile birlikte ortaya çıkmıştır.
B) İhtiyacı karşılamaya uygun vasıtalar birer maldır.
C) Doğadaki birçok bitki ve hayvan birer maldır.
D) Bir vasıtanın mal olabilmesi için doğada belirli bir ölçüde olması gerekir.

3. OTURUM

19. İnsanların ihtiyaçlarını doğrudan doğruya karşılamaya uygun olan, üretilen ve doğada belirli miktarda bulunan vasitalara ne ad verilir?

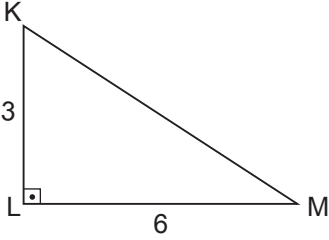
- A) Mal B) Servet
C) Fayda D) Değer

20. Bir iş yerinde çalışan işçilerin ücret kesintisi korkusu yaşamaları, verimliliğe etki eden hangi etkenler arasında değerlendirilebilir?

- A) Objektif etkenler
B) Subjektif etkenler
C) İşletme organizasyonu
D) İşletme tekniğinin modernleştirilmesi

(468) MATEMATİK – 8

1.

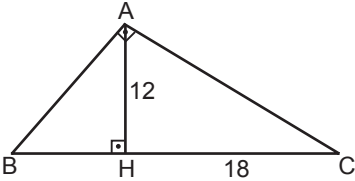


Şekildeki KLM dik üçgeninde $[KL] \perp [LM]$ ve $|KL| = 3$ cm, $|LM| = 6$ cm'dir.

Buna göre $|KM|$ kaç santimetredir?

- A) $3\sqrt{5}$ B) $3\sqrt{6}$
C) $6\sqrt{2}$ D) $6\sqrt{3}$

2.

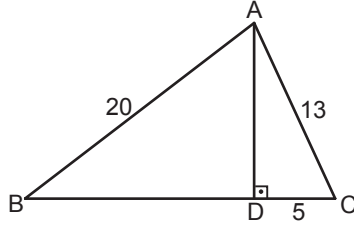


Şekildeki ABC üçgeninde $[BA] \perp [AC]$, $[AH] \perp [BC]$ ve $|AH| = 12$ cm, $|HC| = 18$ cm'dir.

Buna göre $|BH|$ kaç santimetredir?

- A) 6 B) 8 C) 9 D) 12

3.

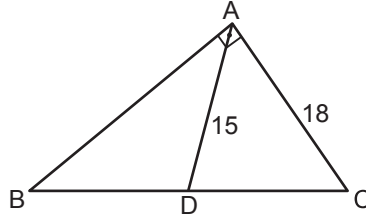


Şekildeki ABC üçgeninde $[AD] \perp [BC]$ ve $|AB| = 20$ cm, $|DC| = 5$ cm, $|AC| = 13$ cm'dir.

Buna göre $|BC|$ kaç santimetredir?

- A) 18 B) 19 C) 20 D) 21

4.

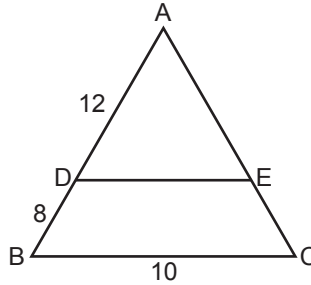


Verilen şekilde ABC bir dik üçgen, $[BA] \perp [AC]$ ve $|BD| = |DC|$, $|AD| = 15$ cm, $|AC| = 18$ cm'dir.

Buna göre $|AB|$ kaç santimetredir?

- A) 33 B) 28 C) 24 D) 20

5.

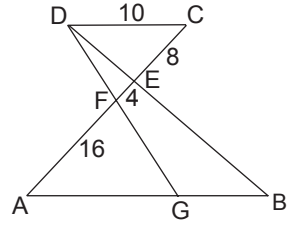


Şekildeki ABC üçgeninde $[DE] \parallel [BC]$ ve $|AD| = 12$ cm, $|DB| = 8$ cm, $|BC| = 10$ cm'dir.

Buna göre $|DE|$ kaç santimetredir?

- A) 5 B) 6 C) 7 D) 8

6.

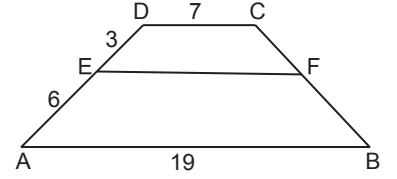


Şekilde $[DC] \parallel [AB]$, $G \in [AB]$, $|DC| = 10$ cm, $|CE| = 8$ cm, $|EF| = 4$ cm ve $|FA| = 16$ cm'dir.

Buna göre $|GB|$ kaç santimetredir?

- A) 11 B) $\frac{35}{3}$ C) 12 D) $\frac{38}{3}$

7.

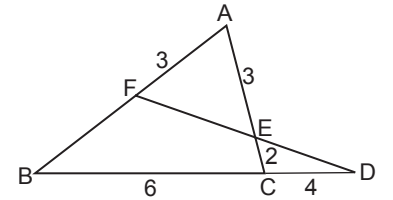


Şekilde $[DC] \parallel [EF] \parallel [AB]$ ve $|AB| = 19$ cm, $|CD| = 7$ cm, $|DE| = 3$ cm, $|EA| = 6$ cm'dir.

Buna göre $|EF|$ kaç santimetredir?

- A) 11 B) 13 C) 15 D) 17

8.

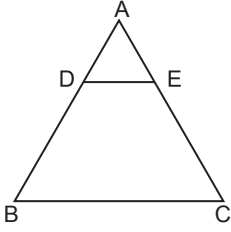


Şekildeki ABC ve FBD üçgenlerinde $|AF| = |AE| = 3$ cm, $|BC| = 6$ cm, $|CE| = 2$ cm ve $|CD| = 4$ cm'dir.

Buna göre $|BF|$ kaç santimetredir?

- A) 4 B) $\frac{9}{2}$ C) 5 D) $\frac{11}{2}$

9.



Şekildeki ABC üçgeninde
 $[DE] \parallel [BC]$, $A(BCED) = 63 \text{ cm}^2$ ve
 $3|AD| = 2|DB|$ 'tir.

Buna göre $A(\widehat{ADE})$ kaç santimetrekaredir?

- A) 12 B) 13 C) 14 D) 15

10. $\frac{3\pi}{5}$ radyan kaç derecedir?

- A) 108 B) 120 C) 144 D) 150

11. $\sin 285^\circ$, $\cos 312^\circ$, $\tan 190^\circ$ ve
 $\cot 128^\circ$ değerlerinin işaretleri sırasıyla aşağıdakilerden hangisidir?

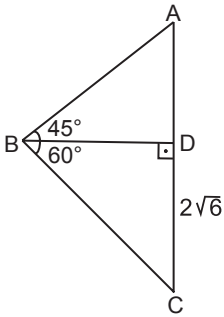
- A) +, -, -, + B) +, -, +, +
 C) -, +, -, - D) -, +, +, -

12. $\sin \alpha + \cos \alpha = \frac{\sqrt{5}}{4}$

olduğuna göre $\sin \alpha \cdot \cos \alpha$ kaçtır?

- A) $\frac{-3}{8}$ B) $\frac{-11}{32}$
 C) $\frac{3}{8}$ D) $\frac{11}{32}$

13.



Şekildeki ABC üçgeninde
 $[BD] \perp [AC]$, $m(\widehat{ABD}) = 45^\circ$,
 $m(\widehat{DBC}) = 60^\circ$ ve
 $|DC| = 2\sqrt{6}$ cm'dir.

Buna göre $|AB|$ kaç santimetredir?

- A) 6 B) $4\sqrt{2}$
 C) $2\sqrt{5}$ D) 4

14. $\cot 840^\circ + \cos 690^\circ$ işleminin sonucu kaçtır?

- A) $\frac{-5\sqrt{3}}{6}$ B) $\frac{-\sqrt{3}}{6}$
 C) $\frac{\sqrt{3}}{6}$ D) $\frac{5\sqrt{3}}{6}$

15. $f(x) = \cos\left(\frac{5x}{6}\right) - \tan\left(\frac{x}{4}\right) + \sin\left(\frac{x}{3}\right)$

olduğuna göre $f(\pi)$ kaçtır?

- A) $1 + \sqrt{3}$ B) 1
 C) $1 - \sqrt{3}$ D) -1

16. $3\cos x - 4\sin x + 1$ ifadesinin en büyük değeri kaçtır?

- A) 3 B) 6 C) 8 D) 11

17. $\cos^2(3x - 2) + \tan^3(2x + 4)$ fonksiyonunun periyodu aşağıdakilerden hangisidir?

- A) $\frac{\pi}{2}$ B) π C) 2π D) 4π

18. Bir ABC üçgeninde $\cos(\widehat{A} + \widehat{B}) + \cos(\widehat{C}) + \cos(\widehat{A} + \widehat{B} + \widehat{C})$ ifadesinin eşiti aşağıdakilerden hangisidir?

- A) -2 B) -1
 C) 0 D) 2

19. $\sin x = \frac{2a-1}{3}$ olduğuna göre a'nın bulunduğu en geniş aralık aşağıdakilerden hangisidir?

- A) $[-1, -2]$ B) $[-2, -1]$
 C) $[-1, 2]$ D) $[-1, 3]$

20. $(180^\circ, 3)$ noktası $y = f(x)$ fonksiyonunun grafiği üzerinde olduğuna göre $f(x)$ 'in eşiti aşağıdakilerden hangisidir?

- A) $2\sin x + 1$ B) $-2\sin x - 1$
 C) $3\cos x - 1$ D) $2\cos x + 5$

(478) MANTIK – 1

1. Aşağıdakilerden hangisi Aristoteles'ten etkilenmiş olan İslam mantıkçılarından?

- A) R. Descartes B) İbn-i Sina
 C) W. Leibniz D) F. Bacon

2. Birbirleriyle ilişkili olan yargılardan bir sonuç çıkarma işlemi aşağıdaki kavramlardan hangisiyle ifade edilir?

- A) Akıl yürütme B) Bilgi doğrusu
 C) Gerçeklik D) Mantık doğrusu

3. Aşağıdakilerden hangisi olumsuz kavrama örnektir?

- A) Güzel B) Çalışkan
 C) Yürüyen D) Görgüsüz

4. Doğru düşünmenin ilke ve kurallarını inceleyen bilim aşağıdakilerden hangisidir?

- A) Kimya B) Psikoloji
 C) Mantık D) Matematik

5. Aşağıdaki önermelerden hangisi mantığın özdeşlik ilkesine örnek oluşturur?

- A) Hava ya aydınlıktır ya da karanlıktır.
 B) Cemre hem çalışkan hem de tembeldir.
 C) Tüm insanlar ölümlüdür.
 D) Öğrenci öğrencidir.

6. Aşağıdakilerden hangisi beş tümel içinde yer almaz?

- A) Cins B) Ayrım
 C) Önerme D) Tür

7. Aşağıdakilerden hangisi bir şeyin ne olduğunu belirtme, bir kavramın anlamını aydınlatma, açıklama ve belirleme işlemi ifade eder?

- A) Kıyas B) Tanım
 C) İlinti D) Ayrım

3. OTURUM

8. Varlık → Canlı → İnsan → Ayşe
Yukarıdaki sıralamada işlemi en fazla olan kavram hangisidir?

- A) Varlık B) Canlı
C) Ayşe D) İnsan

9. Kavramlardan hiçbirini diğerinin bireylerini içermiyorsa, aralarında ayrıklık ilişkisi vardır.

Buna göre aşağıda verilen kavram çiftlerinin hangisinde ayrıklık ilişkisi vardır?

- A) İnsan – akıllı
B) Kedi – kuş
C) Köpek – havlayan
D) Mühendis – kadın

10. Aşağıdakilerden hangisi insanın özgüllüğüdür?

- A) Yürümek B) Uyumak
C) Okumak D) Üremek

11. Aşağıdakilerden hangisi birden fazla yargıyı dile getiren bileşik önermelere örnektir?

- A) Ali çalışandır.
B) Kadınlar çiçektir.
C) Bilim mantıksaldır.
D) İstanbul güzel ve kalabalık bir şehirdir.

12. Çıkarmalı önermeler, konunun bir kısmını ya da konuya giren bireylerin bir kısmını dışarda tutarak kurulan önermelerdir.

Buna göre aşağıdakilerden hangisi çıkarmalı önermedir?

- A) Benim dışımda herkes gitti.
B) İnsan çok yemek yerse kilo alır.
C) Bir ay öncesine kadar derslerim iyiydi.
D) Öğrenmenin en iyi yolu okumaktır.

13. I. Aşk
II. Koku
III. Nefret

Yukarıdakilerden hangilerinin tanımlı yapılamaz?

- A) Yalnız I B) I ve II.
C) II ve III. D) I, II ve III.

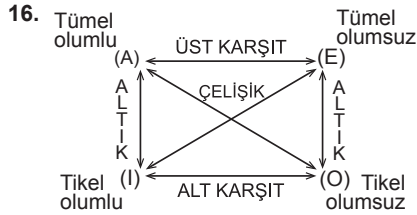
14. Aşağıdakilerden hangisi bir önermede bulunması gereken özelliklerden değildir?

- A) Anlamlı cümlelerden oluşması
B) En az bir yargı bildirmesi
C) Bir dileği ifade etmesi
D) Doğruluk değeri taşıması

15. "Düz döndürme; bir önermenin niteliğini bozmaksızın öznesini yüklem, yüklemine özne yaparak anlamca eşdeğer yeni bir önerme oluşturmaktır."

Buna göre "Bazı çocuklar melektir." önermesinin düz döndürmesi aşağıdakilerden hangisidir?

- A) Bazı melekler çocuktur.
B) Bütün melekler çocuktur.
C) Bazı melekler çocuk değildir.
D) Hiçbir melek çocuk değildir.



Önermeler arasındaki karşı olma ilişkisi yukarıdaki kareye uygun olarak kurulduğuna göre, "Bazı insanlar güzeldir." önermesinin alt karşıtı aşağıdakilerden hangisidir?

- A) Bazı güzeller insan değildir.
B) Bazı insanlar güzel değildir.
C) Hiçbir insan güzel değildir.
D) Bütün insanlar güzeldir.

17. Öğrenci kitap okur ise üniversiteyi kazanır.
Öğrenci kitap okumuştur.
O halde - - -

Yukarıdaki kıyasta öncüllerden zorunlu olarak çıkacak sonuç hangisidir?

- A) Öğrenci üniversiteyi kazanır.
B) Tüm kitap okuyanlar öğrencidir.
C) Üniversiteyi kazananlar öğrenci değildir.
D) Bazı öğrenciler kitap okumamıştır.

18. Zihinde tam tasarlandığı halde dilde ifadesi eksik olan kıyas çeşidi aşağıdakilerden hangisidir?

- A) Karma kıyas B) Entimem
C) Delilli kıyas D) Sorit

19. Verilen önermelerden zorunlu olarak yeni bir önerme çıkarma işlemini ifade eden kavram aşağıdakilerden hangisidir?

- A) Döndürme B) Kavram
C) Çıkarım D) Tanım

20. Bütün öğrenciler çalışkandır.
Ayşe öğrencidir.
O halde Ayşe çalışkan değildir.

Bu örnekte kıyas kurallarından hangisine uyulmamıştır?

- A) İki tikel öncülden bir sonuç çıkmaz.
B) İki olumsuz öncülden bir sonuç çıkmaz.
C) Orta terim sonuç önermesinde yer almaz.
D) İki olumlu öncülden çıkan sonuç olumludur.

(500) İNGİLİZCE – 6

1-20. sorularda boş bırakılan yere uygun gelen kelime ya da ifadeyi işaretleyiniz.

1. - - - you get up early, you can catch the school bus.

- A) If B) For
C) Before D) Although

2. I passed the exam - - - I studied hard.

- A) or B) so
C) because D) while

3. - - - my father came home, we had dinner.

- A) So B) For
C) While D) As soon as

4. The man - - - had an accident was nervous.

- A) which B) who
C) when D) whose

5. This is the woman - - - car fell into the river.

- A) who B) where
C) whose D) which

3. OTURUM

6. I couldn't buy the house - - - - was very expensive.

- A) which B) whose
C) what D) where

7. - - - - I went to bed, I brushed my teeth.

- A) Before B) While
C) After D) If

8. If I were you, I - - - -.

- A) will go to İzmir
B) must study hard
C) can help sick people
D) would give up eating junk food

9. If you - - - - the key, we - - - - the door.

- A) haven't forgotten / would have opened
B) had forgotten / couldn't have opened
C) will forget / will have opened
D) forget / had opened

10. We went to Cappadocia - - - -.

- A) tomorrow B) right now
C) last week D) now

11. My parents - - - - prefer tea to other drinks.

- A) early B) carefully
C) generally D) difficultly

12. There - - - - a big theatre here but now it's gone.

- A) used to B) should
C) could D) might

13. Melissa - - - - have long hair in the past, but now her hair is very long.

- A) could B) used to
C) might not D) didn't use to

14. It is very hot here. - - - - you turn the air conditioner on?

- A) Do B) Are
C) Would D) Should

15. If I were you, I would - - - - that black jacket.

- A) go B) buy
C) play D) smell

16. You - - - - go out if you finish your homework.

- A) can B) had
C) has to D) does

17. I think you can lose weight if you - - - - exercises regularly.

- A) does B) done
C) did D) do

18. If I - - - - hard, I would have been got high marks in the exam.

- A) had studied B) studying
C) to study D) study

19. This time tomorrow, we - - - - an English exam at school.

- A) have been having
B) will be having
C) had had
D) has had

20. If it doesn't rain, we - - - - on a picnic this weekend.

- A) goes B) went
C) will go D) has gone

(50) ALMANCA – 6

1-17. sorularda boş bırakılan yere uygun gelen kelime ya da ifadeyi işaretleyiniz.

1. **A:** - - - - reparierst du das Fahrrad?
B: Mit dem Schraubenzieher.

- A) Womit B) Woher
C) Wohin D) Wozu

2. **Ali** geht jeden Abend um 10 Uhr - - - - Bett.

- A) im B) nach
C) ins D) zur

3. Die Schüler - - - - nicht im Bus.

- A) ist B) bin
C) seid D) sind

4. Ich bin krank, aber ich will - - - - zur Schule gehen.

- A) trotzdem B) denn
C) obwohl D) weil

5. Die Ärztin, - - - - mich operiert hat, ist neu im Krankenhaus.

- A) der B) die
C) das D) dem

6.



Die Bücher sind - - - - Regal.

- A) auf dem B) neben dem
C) in dem D) unter dem

7. - - - - ich viele Hausaufgaben habe, werde ich nicht ins Kino gehen.

- A) Denn B) Obwohl
C) Trotz D) Weil

8. **A:** Alle sagen, ihr - - - - aus Spanien.
B: Nein, wir sind aus Italien.

- A) wärt B) warst
C) waren D) war

9. Das neu- - - - - Hotel hat 5 Stern- - - - -.

- A) -es / -en B) -e / -e
C) -en / -e D) -e / -es

10. Unsere Klasse - - - - in Mathe besser als die 12-B.

- A) sind B) seid
C) ist D) hat

11. Die klein- - - - -, weiß- - - - - Katze ist sehr schön.

- A) -e / -e B) -er / -er
C) -es / -es D) -en / -en

3. OTURUM

12. Sie ist gestern nicht nach Hause
----. (gehen, Partizip Perfekt)

- A) gehen B) ging
C) geht D) gegangen

13. Die Bibliothek ist ---- der Schule.

- A) im B) über
C) in D) zwischen

14. Helga und Martin machen in ----
Türkei Urlaub.

- A) die B) der
C) das D) den

15. Sibel geht ins Restaurant, aber
Peter ist ---- Restaurant.

- A) in B) ins
C) in der D) im

16. ---- es schneit, isst sie Eis.

- A) Trotzdem B) Obwohl
C) Denn D) Warum

17. Wir sind in Ankara. Alle denken,
dass wir in Antalya ----.

- A) wären B) hätten
C) sein D) haben

18. "27" sayısının doğru yazılışı
aşağıdakilerden hangisidir?

- A) zwanzigundsieben
B) siebzigundzwanzig
C) siebenundzwanzig
D) siebzehn

19. Sıfatların zıt anlamlısı hangi
seçenekte doğru verilmiştir?

- A) groß x schön
B) viel x mehr
C) neu x teuer
D) lang x kurz

20. "Es ist halb zwölf Uhr." cümlesinin
Türkçe karşılığı aşağıdakilerden
hangisidir?

- A) Saat onbir.
B) Saat onbir buçuk.
C) saat oniki buçuk.
D) Saat oniki.

(500) FRANSIZCA – 6

1-18. sorularda boş bırakılan yere
uygun gelen kelime ya da ifadeyi
işaretleyiniz.

1. La sœur de ma mère est ma
----.

- A) oncle B) grand-mère
C) nièce D) tante

2. ---- boivent deux litres d'eau
par jour.

- A) Elle B) Nous
C) Vous D) Elles

3. Yasemin est la sœur de Taner et
Taner est ---- de Yasemin.

- A) la belle-fille B) l'oncle
C) le frère D) le cousin

4. Hier soir, nous ---- sortis du
cinéma à 22 h.

- A) êtes B) sont
C) vont D) sommes

5. A : Tu es veuf ?

B : Oui, je suis ----. Ma femme
est morte il y a trois mois.

- A) mariée B) fiancée
C) célibataire D) veuf

6. L'école est ----.

- A) un lieu de travail
B) un lieu de repos
C) un lieu de vacances
D) un lieu pour le mariage

7. Quand tu fais du vélo, ---- ton
casque.

- A) a mis B) mettre
C) mets D) met

8. Ayşegül, nous traversons
l'avenue, ----moi la main.

- A) donné B) donne
C) donner D) ayant donné

9. En juin, mes parents sont allés
---- une semaine à la montagne.

- A) sortir B) passer
C) écouter D) finir

10. Il pleut, ---- votre parapluie.

- A) ouvrez B) mangez
C) fais D) soyez

11. Elif fait de la peinture en ---- du
café.

- A) manges B) boire
C) manger D) buvant

12. En venant, ---- un litre de lait.

- A) achète B) acheter
C) a acheté D) acheté

13. Ali aime ---- avec son chien au
bord du lac.

- A) se promener
B) comprendre
C) s'appeler
D) connaître

14. ---- Turquie, les élèves ne vont
pas ---- l'école le samedi et le
dimanche.

- A) Au / en B) Aux / au
C) À / en D) En / à

3. OTURUM

15. Nous passons à table,
- - - - -vous les mains.

- A) laver B) lavez
C) travaillez D) regardez

16. Ne mange pas avec - - - - .

- A) les pieds B) le chapeau
C) les doigts D) les fleurs

17. Ne - - - - couche pas sur les
fauteuils.

- A) se B) te
C) moi D) toi

18. Le gâteau au chocolat est
préparé - - - - mon père.

- A) de B) des
C) par D) en

19-20. sorularda verilen cümlelerin
Türkçe karşılığını işaretleyiniz.

19. Cette voiture bleue a été achetée
par mon père.

- A) Şu kırmızı arabayı babam satın
alacak.
B) Bu mavi araba babam tarafından
satın alındı.
C) Bu mavi spor arabayı babam
kullanacak.
D) Karşıdaki kırmızı araba
amcamındır.

20. Allez donc jouer au basket
demain.

- A) Yarın akşam basketbol oynamaya
gideceğiz.
B) Yarın sabah basketbol oynayalım.
C) Yarın basketbol oynamaya
gitsenize.
D) Yarın sabah basketbol
oynamayacağız.

(503) SEÇMELİ TARİH – 3

1. Aşağıdakilerden hangisi, Osmanlı
Devleti'nin gelişmesini kolaylaştı-
ran etkenlerden biri değildir?

- A) Bizans İmparatorluğu'nda taht
kavgalarının yaşanması
B) Türkiye Selçuklu Devleti'nin siyasi
gücünün zayıflaması
C) Moğolların bir kolu olan
İlhanlıların Anadolu'daki etkinliği-
nin azalması
D) Karamanoğulları'nın kendilerini
Türkiye Selçuklu Devleti'nin mi-
raşçısı olarak görmesi

2. "Belli bir iş kolunda usta, kalfa ve
çırakları içine alan dernek" olarak
tanımlayabileceğimiz kavram, aşa-
ğıdakilerden hangisidir?

- A) Kapan B) Kaime
C) Lonca D) Mültezim

3. Candaroğulları ile Mentешеoğulları
beyliklerinin ortak özelliği, aşağı-
dakilerden hangisidir?

- A) Denizcilikle uğraşmaları
B) Batı Anadolu'da kurulmaları
C) Sivas yöresinde hüküm sürmeleri
D) Orhan Bey Dönemi'nde
Osmanlılara bağlanmaları

4. Aşağıdakilerden hangisi ilmiye
sınıfından değildir?

- A) Kadılar B) Sipahiler
C) Müftüler D) Müderrisler

5. Has, zeamet ve tımar, aşağıda-
kilerden hangisinin bölümlerini
oluşturur?

- A) Mukataa B) Malikâne
C) Vakıf D) Dirlik

6. Divanda alınan savaş, barış ve
idam kararlarının İslam'a uygun
olup olmadığı konusunda görüş
bildiren Divanîhümayun üyesi,
aşağıdakilerden hangisidir?

- A) Nişancı
B) Defterdar
C) Şeyhülislam
D) Kubbealtı vezirleri

7. Aşağıdakilerden hangisi, Osmanlı
hükümdarlarının kullandığı unvan-
lardan biri değildir?

- A) Han B) Kağan
C) Sultan D) Hüdavendigâr

8. Osmanlı ordusu Haçova
Savaşı'nda, aşağıdaki hangi devle-
tin önderliğinde oluşturulan Haçlı
ordusunu yenilgiye uğratmıştır?

- A) Avusturya B) Lehistan
C) Fransa D) Malta

9. Tımar sistemi ile ilgili aşağıdaki
bilgilerden hangisi yanlıştır?

- A) Toprağın mülkiyeti köylünüdür.
B) Tımar sahibi kendilerine ayrılan
arazide oturmak zorundadırlar.
C) Dirlik sahipleri ile reaya arasındaki
ilişkiler kanunnameler ile düzen-
lenmiştir.
D) Tımar sahibi, gelirinin ilk üç bin
akçesiyle kendi geçimini sağlar,
geri kalan her üç bin akçe için de
bir atlı asker yetiştirir.

10. Aşağıdakilerden hangisi başlan-
gıçta Osmanlı Devleti'nin bir "iç
sorun"u iken daha sonra "dış so-
run" hâline almıştır?

- A) Şark Meselesi
B) Cem Sultan Olayı
C) Şeyh Bedrettin İsyanı
D) Kutsal Emanetlerin İstanbul'a
getirilmesi

11. Osmanlı Devleti'nde kanunlar ilk
defa hangi padişah döneminde
"Kanunname-i Âli Osman" adıyla
yazılı hâle getirilerek düzenlen-
miştir?

- A) Yavuz Sultan Selim
B) Murat Hüdavendigâr
C) Fatih Sultan Mehmet
D) Kanuni Sultan Süleyman

12. Aşağıdaki bilgilerden hangisi
Takiyüddin Mehmet ile ilgili değildir?

- A) III. Murat Devri astronomi ve ma-
tematik bilginidir.
B) İstanbul'daki ilk gözlem evinin
kurucusudur.
C) Ay ve Güneş tutulmaları ile ilgili
gözlemler yapmıştır.
D) En tanınmış yapıtı "Mirat'ül
Memalik" adlı eseridir.

13. I. Turnadağ Savaşı
II. Ridaniye Savaşı
III. Mercidabık Savaşı
IV. Çaldıran Savaşı

Verilen savaşların oluş sırası,
aşağıdakilerin hangisinde doğru
verilmiştir?

- A) IV - III - II - I B) IV - I - III - II
C) I - II - III - IV D) I - IV - III - II

3. OTURUM

(504) SEÇMELİ TARİH – 4

14. Rönesans'ın İtalya'da başlamasından, İtalya'nın aşağıdaki özelliklerinden hangisi etkili olmamıştır?

- A) Siyasi B) Coğrafi
C) Askerî D) Ekonomik

15. Devlet bu eyaletlerde;

- Tımar sistemini uygulamaz,
- vergileri iltizam usulü ile yıllık toplardı.

Aşağıdaki eyaletlerden hangisi, bu açıklamalara verilebilecek uygun bir örnek değildir?

- A) Budin B) Mısır
C) Tunus D) Cezayir

16. Aşağıdakilerden hangisi, Osmanlı Devleti'nin Duraklama Dönemi'ne girmesine yol açan dış nedenlerden biridir?

- A) Tımar sisteminin bozulması
B) Coğrafi keşifler sonucunda yeni ticaret yollarının keşfi
C) Pozitif bilimlerin medreselerin eğitim programlarından çıkarılması
D) Şehzadelerin Sancak Bey'i olarak sancaklara gönderilme geleneğinin kaldırılması

17. Osmanlı bürokrasisini oluşturan sınıf, aşağıdakilerden hangisidir?

- A) Reaya B) İlimiye
C) Seyfiye D) Kalemîye

18. Aşağıdakilerden hangisi 17. yüzyılda Osmanlı - İran arasında imzalanan antlaşmalardan biri değildir?

- A) Nasuh Paşa B) Serav
C) Zitvatorok D) Kasrışirin

19. Topkapı Sarayı'ndaki Bağdat Köşkü'nü yaptıran Osmanlı padişahı aşağıdakilerden hangisidir?

- A) III. Murat B) IV. Murat
C) III. Selim D) IV. Mehmet

20. Avrupalılar, aşağıdaki hangi olay sonrasında Türkleri Avrupa'dan atmak için papanın önderliğinde "Kutsal İttifak" birliğini kurmuşlardır?

- A) II. Viyana Bozgunu
B) Genç Osman'ın şehit edilmesi
C) Türklerin Kıbrıs Adası'nı ele geçirmesi
D) İstanbul'un fethi

1. Aşağıdaki antlaşmalardan hangisiyle Rusya'nın Lehistan'ın iç işlerine karışması önlenmiştir?

- A) Prut Antlaşması
B) Belgrad Antlaşması
C) Pasarofça Antlaşması
D) Hünkâr İskelesi Antlaşması

2. Lale Devri'nin padişahı, aşağıdakilerden hangisidir?

- A) II. Ahmet B) III. Ahmet
C) III. Selim D) I. Mahmut

3. Aşağıdakilerden hangisi Lale Devri gelişmelerinden biri değildir?

- A) Önemli Avrupa başkentlerine geçici elçilerin gönderilmesi
B) İlk Türk matbaasının açılması
C) İtfaiye bölüğünün kurulması
D) İkinci Meşrutiyetin ilan edilmesi

4. "Napolyon Bonapart kimdir?" sorusuna, aşağıdakilerden hangisi doğru cevap olarak verilemez?

- A) Fransız komutanıdır.
B) Fransa'nın 1804 - 1815 yılları arasındaki imparatorudur.
C) Osmanlı padişahlarından Genç Osman ve IV. Murat'ın çağdaşıdır.
D) Akka Kalesi önlerinde Nizamîcedit ordusuyla yaptığı mücadeleyi kaybeden Fransız devlet adamıdır.

5. Özi Kalesi'nin Rusların eline geçtiğini öğrenince üzüntüsünden felç geçiren ve kısa bir süre sonra da ölen Osmanlı padişahı, aşağıdakilerden hangisidir?

- A) III. Selim B) III. Ahmet
C) III. Mustafa D) I. Abdülhamit

6. Amerikan bağımsızlık savaşı, aşağıdaki devletlerden hangisine karşı verilmiştir?

- A) İngiltere B) İspanya
C) Hollanda D) Fransa

7. Osmanlı Devleti'nde ilk kez Avrupa'ya öğrenci gönderilmesi, aşağıdaki dönemlerin hangisinde gerçekleşmiştir?

- A) Tanzimat Dönemi
B) Köprülüler Dönemi
C) II. Mahmut Dönemi
D) III. Selim Dönemi

8. Devlet işlerinin görüşüldüğü Divanihümayun'un yerini, 18. yüzyılın sonlarında aşağıdakilerden hangisi almıştır?

- A) Birun
B) Babıâli
C) Divaniadliye
D) Düyunumumiye

9. Osmanlı Devleti;

- 1711'de Prut,
- 1774'de Küçük Kaynarca,
- 1792'de Yaş

antlaşmalarını, aşağıdaki hangi devletle imzalamıştır?

- A) Avusturya B) Venedik
C) Rusya D) Fransa

10. "...I.... Dönemi'nde Osmanlı Devleti'ne iltica edip Müslüman olan ve "Ahmet" adını alan Comte De Bonneval tarafındanII.... kurulmuştur."

Verilen bilgi cümlesinin doğru olabilmesi için numaralandırılarak boş bırakılan yerlere, aşağıdakilerden hangisi yazılmalıdır?

	I	II
A)	I. Mahmut	Humbaracı Ocağı
B)	III. Selim	Cebeci Ocağı
C)	II. Mahmut	Topçu Ocağı
D)	I. Abdülhamit	Top Arabacıları Ocağı

11. Kavalalı Mehmet Ali Paşa'nın çıkardığı Mısır İsyanı'nda, aşağıdaki devletlerden hangisi Mehmet Ali Paşa'ya karşı Osmanlı Devleti yanlısı bir politika izlemiştir?

- A) Rusya B) İsveç
C) Avusturya D) Yunanistan

3. OTURUM

12. Osmanlı padişahlarından II. Osman ile II. Mahmut, merkezî otoritelerini güçlendirmek adına yapmaya çalıştıkları ortak icraat, aşağıdakilerden hangisidir?

- A) Maliyeyi düzeltme
- B) Kapitülasyonları kaldırma
- C) Kanunuesasi'yi hazırlatma
- D) Yeniçeri Ocağı'nı kapatma

13. Ordunun fes ihtiyacını karşılamak için Feshane, aşağıdaki hangi Osmanlı padişahı döneminde kurulmuştur?

- A) III. Selim
- B) II. Mahmut
- C) IV. Murat
- D) II. Abdülhamit

14. "Rusların yardımıyla Rumlar ilk isyanı 1820'de - - - - başlatmışlardır."

Verilen cümlelerin doğru olabilmesi için boş bırakılan yere, aşağıdakilerden hangisi yazılmalıdır?

- A) İstanbul'da
- B) Atina'da
- C) Mora'da
- D) Eflâk'ta

15. Osmanlı Devleti'ndeki gayrimüslimlere, aşağıdakilerden hangisiyle kendi okul ve hastanelerini açma izni verilmiştir?

- A) Senediittifakla
- B) Kanunuesasi'yle
- C) Islahat Fermanı'yla
- D) Tanzimat Fermanı'yla

16. I. ve II.Meşrutiyet hangi padişah döneminde ilan edilmiştir?

- A) II.Abdülhamit
- B) II.Mahmut
- C) III.Selim
- D) III.Ahmet

17. Aşağıdakilerden hangisi, Avrupa devletlerinin azınlıkları koruma bahanesiyle Osmanlı'nın iç işlerine karışmasını önlemek amacıyla yapılmıştır?

- A) Duyun-u Umumiye İdaresi'nin kurulması
- B) Tanzimat Fermanı'nın ilanı
- C) Saltanatın kaldırılması
- D) Senediittifak

18. II. Abdülhamit Dönemi'nde Osmanlı Devleti'nin resmî politikası hâline gelen fikir akımı, aşağıdakilerden hangisidir?

- A) Batıcılık
- B) Turancılık
- C) İslamcılık
- D) Osmanlıcılık

19. Sultan II. Mahmut, askerî bandoyu kurdurtmak için aşağıdakilerden hangisini İtalya'dan getirmiştir?

- A) Francisco Goya
- B) Güllü Agop
- C) Masaccio
- D) Donizetti

20. Aşağıdakilerden hangisi, Osmanlı Devleti'nin I. Dünya Savaşı'nda müttefiklerine yardım amacıyla Osmanlı toprakları dışında savaştığı cephelerden biri değildir?

- A) Yemen
- B) Galiçya
- C) Romanya
- D) Makedonya

(505) SEÇMELİ COĞRAFYA – 3

1. Aşağıdakilerden hangisi diğerlerine göre çok kolay aşınacak kadar yumuşak dokulu bir kayadır?

- A) Tüf
- B) Granit
- C) Bazalt
- D) Mermer

2. Fiziksel tortul kayaların oluşabilmesi için farklı türlerdeki ufalanmış kayaları taşıyarak çukur yerlerde birikmesini doğrudan sağlayan dış kuvvetler içinde aşağıdakilerden hangisi yoktur?

- A) Buzul
- B) Akarsu
- C) Rüzgar
- D) Güneş

3. Aşağıdaki levhalardan hangileri birbirlerine yaklaşıp hareket etmektedir?

- A) Afrika – Antarktika
- B) Avrasya – Hindistan
- C) Afrika – Güney Amerika
- D) Avustralya – Antarktika

4. Jeotermal bölgelerin temel özelliği aşağıdakilerden hangisidir?

- A) Yükseltilerinin fazla olması
- B) Orman bakımından fakir olmaları
- C) Faylarla parçalanmış araziler olmaları
- D) Metamorfik kayaların yaygın olması

5. Okyanus sularının farklı kimyasal ve fiziksel özelliklere sahip olmasını belirleyen faktör aşağıdakilerden hangisidir?

- A) Yükselti
- B) Rüzgar
- C) Enlem
- D) Bakı

6. Volkanik dağlarda patlamadan sonra dağın tepesinde oluşan çukurlukta biriken suların oluşturduğu göllere ne ad verilir?

- A) Buzul göl
- B) Karstik göl
- C) Yapay göl
- D) Krater göl

7. Amazon, Kongo, Ganj gibi düzenli rejime sahip akarsuların temel özelliği aşağıdakilerden hangisidir?

- A) Kar ve buz sularıyla beslenmeleri
- B) Sık sık etraflarına taşkın yapmaları
- C) Akım miktarlarının her mevsim birbirine yakın olması
- D) Eğimi yüksek vadilerde hızlı akışı olmaları

8. Topraklarla ilgili aşağıdakilerden hangisi söylenemez?

- A) Soğuk iklim bölgelerinde fiziksel ayrışmaya uğrar.
- B) Erozyonla aşınma bile kısa zamanda yeniden oluşur.
- C) İçinde organizma, organik madde, hava ve su bulunur.
- D) Oluşumunu tamamlamış toprak farklı katmanlara sahiptir.

9. Anadolu'da bir zamanlar orman yüzölçümünün şimdiki gibi % 25 değil % 75 lere yakın olduğu çeşitli kaynaklarda ve bilimsel araştırmalarda tespit edilmiştir. Fakat savaşlar, yakacak ihtiyacı, tarla açma gibi nedenlerle yüzyıllar içinde tüketilmiştir. Verilen metinde ormanların dağılışında etkili olan hangi unsurdan bahsedilmiştir?

- A) Beşeri faktör
- B) İklim faktörü
- C) Toprak faktörü
- D) Yer şekilleri faktörü

10. Genel olarak az gelişmiş veya gelişmemiş ülkelerde genç nüfus ve bağımlı nüfus miktarı yüksektir.

Aşağıdaki ülkelerden hangisi buna örnektir?

- A) Bangladeş
- B) Kanada
- C) İspanya
- D) Danimarka

3. OTURUM

11. Aşağıdakilerden hangisi nüfus yoğunluğunun az olduğu yerlerdendir?

- A) Batı Avrupa
- B) Nil Havzası
- C) Orta Asya
- D) Güneydoğu Asya

12. Bir ülkenin nüfus piramidi aşağıdakilerden hangisi hakkında fikir veremez?

- A) Kadın nüfus oranı
- B) Yaygın meslek grupları
- C) Ortalama yaşam süresi
- D) Nüfusun yaş gruplarına dağılımı

13. Aşağıdakilerden hangisi göçe neden olan ekonomik etkenlerden biridir?

- A) Ülke sınırlarının değişmesi
- B) İş imkânlarının sınırlı olması
- C) Sağlık hizmetlerinin kısıtlı olması
- D) Eğitim koşullarının yetersiz olması

14. Lozan Barış Antlaşması ile Yunanistan'daki Türkler ile Türkiye'deki Rumların yer değiştirmesi hangi göç türüne dâhildir?

- A) İşçi göçü
- B) Beyin göçü
- C) Kavimler göçü
- D) Mübadele göçü

15. I. Çin
II. Kanada
III. Güney Afrika Cumhuriyeti
IV. Avusturalya

Yukarıdaki ülkelerden hangileri beyin göçü veren ülkeler arasında yer alır?

- A) Yalnız I
- B) Yalnız II
- C) I ve II.
- D) III ve IV.

16. Aşağıdaki mesleklerden hangisi ikincil ekonomik faaliyet grubuna girer?

- A) Buğday üreten çiftçi
- B) Un fabrikasında çalışan işçi
- C) Marketlere ekmeke dağıtan aracın sürücüsü
- D) Üretilen ekmeğin sağlığa uygunluğunu test eden gıda mühendisi


17. Aşağıdakilerden hangisi gelişmiş ülkelere ait bir özelliktir?

- A) Milli gelirleri düşüktür.
- B) Ürün değerleri yüksektir.
- C) Nüfus artış hızı düşüktür.
- D) Sanayi ürünleri ihraç eder.

18. Aşağıdakilerden hangisi Türkiye'nin özel konumunun sonuçlarındandır?

- A) İklim çeşitliliği fazladır.
- B) Kışın cephesel yağışlar fazladır.
- C) Dört mevsim belirgin olarak yaşanır.
- D) Güneş ışınlarını hiçbir zaman dik açıyla almaz.

19.



Akarsuların eğiminin azaldığı yerde oluşan görseldeki yer şeklinin adı nedir?

- A) Tombolo
- B) Dev kazanı
- C) Falez
- D) Menderes

20. Aşağıdakilerden hangisi ülkemizde etkili olan yerel rüzgârlardan biri değildir?

- A) Poyraz
- B) Karayel
- C) Mistral
- D) Lodos

(506) SEÇMELİ COĞRAFYA – 4

1. • Organik madde bakımından zengindir.
- Yıkanmanın fazla olduğu yerlerde asitli ve kireçsizdir.
- Ülkemizde Kuzey Anadolu Dağları'nın denize bakan yamaçlarında yaygındır.
- Çay , kivi yetiştirmek için oldukça elverişlidir.

Yukarıda bazı özellikleri verilen toprak türü hangisidir?

- A) Vertisol
- B) Çernezyom
- C) Terra-Rossa
- D) Kahverengi Orman Toprağı

2. Aşağıdakilerden hangisi hammaddesi toprak olan sanayi ürünü değildir?

- A) Porselen
- B) Çömlek
- C) Fayans
- D) Sunta

3. Makiler, Marmara kıyılarında 300-400 m, Ege kıyılarında 500-600 m, Akdeniz kıyılarında 700-800 m yükseltiye kadar çıkabilmektedir.

Maki üst sınırının bölgelere göre değişiklik göstermesinin sebebi nedir?

- A) Enlem
- B) Bakı
- C) Deniz etkisi
- D) Toprak tipi

4. Aşağıdaki akarsulardan hangisi GAP'ta faydalanılanlardan biridir?

- A) Kızılırmak
- B) Meriç
- C) Fırat
- D) Bakırçay

5. Aşağıdaki akarsulardan hangisi kaynağını başka ülkeden alıp, ülkemizin topraklarından denize dökülür?

- A) Kura
- B) Asi
- C) Dicle
- D) Aras

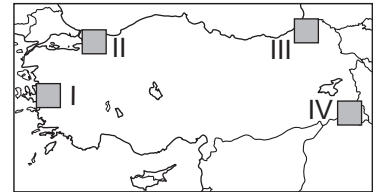
6. Aşağıdaki su kaynaklarından hangisine ülkemizde rastlanmaz?

- A) Gayzer
- B) Fay
- C) Artezyen
- D) Yamaç

7. Aşağıdakilerden hangisi geçici kır yerleşmesidir?

- A) Çiftlik
- B) Kom
- C) Divan
- D) Mahalle

8.



Yukarıdaki haritada numaralandırılarak verilen yerlerin hangileri sanayi şehirlerini gösterir?

- A) I ve II.
- B) I ve III.
- C) II ve III.
- D) III ve IV.

3. OTURUM

9. Aşağıdakilerden hangisi hinterlandı dar olan bir limanımızdır?

- A) Mersin B) İzmit
C) Sinop D) İzmir

10. Aşağıda verilen şehir - fonksiyon eşleştirmelerinden hangisi yanlıştır?

- A) Mersin – Ticaret şehri
B) Manisa – Sanayi şehri
C) Nevşehir – Turizm şehri
D) Zonguldak – Ulaşım şehri

11. Cumhuriyetin ilk yıllarından günümüze kadar nüfusumuzun aşağıdaki özelliklerinden hangisinde dönem dönem artış veya azalış yaşanmıştır?

- A) Nüfus miktarında
B) Nüfus artış hızında
C) Okur yazar oranında
D) Kentsel nüfus oranında

12. İpek Yolu ve bu güzergâhta yapılan ticaretle ilgili olarak aşağıdakilerden hangisi söylenemez?

- A) Asya ve Avrupa arasındaki ticaret yoludur.
B) İpek, kâğıt ve baharat çok taşınan ürünlerdendir.
C) Kültür ve medeniyetlerin kaynaşmasını sağlamıştır.
D) Panama Kanalı'nın yapılmasıyla önemini kaybetmiştir.

13. Coğrafi keşiflerin ilk önce Portekiz ve İspanya'nın kontrolünde gerçekleşmesinin en önemli sebebi aşağıdakilerden hangisidir?

- A) Denizcilikte gelişmiş olmaları
B) Coğrafi konumlarının uygunluğu
C) Bulaşıcı hastalıklarla mücadele etmeleri
D) Ekonomilerinin çökmek üzere olması

14. Matbaanın icadı ve yaygınlaşmasına bağlı olarak aşağıdakilerden hangisinin gerçekleşmesi beklenemez?

- A) Kitap fiyatlarının artması
B) Toplumların kültürünün artması
C) Kitapların geniş kitlelere ulaşması
D) Toplumlararası bilgi alışverişinin gelişmesi

15.



Yukarıdaki dünya haritasında daire içinde gösterilen boğazın adı nedir?

- A) Hürmüz Boğazı
B) Bering Boğazı
C) Cebelitarık Boğazı
D) Macellan Boğazı

16. Aşağıdaki su yollarından hangisinin ticari önemi daha azdır?

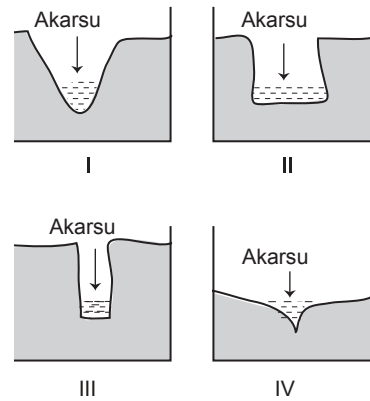
- A) Panama Kanalı'nın
B) Hürmüz Boğazı'nın
C) İstanbul Boğazı'nın
D) Korint Kanalı'nın

17. Volkanizma tüm canlılar için büyük felaketlere neden olmakla beraber sonrasında insanlar açısından önemli ekonomik fırsatlar da sunmaktadır.

Aşağıdakilerden hangisi bunlardan değildir?

- A) İnşaat sektörüne ham madde sağlaması
B) Hava sıcaklıklarını geçici olarak düşürmesi
C) Volkanik bölgelerin turistik değer kazanması
D) Verimli tarım topraklarını oluşturması

18. Aşağıda kesiti verilen vadilerdeki akarsuların akım miktarları aynıdır.



Buna göre akım miktarlarının iki kat artması durumunda hangi akarsuyun sel ve taşkın yapma riski daha yüksektir?

- A) I. B) II. C) III. D) IV.

19. Aşağıdakilerden hangisi heyelan, çığ ve erozyona karşı önceden alınabilecek ortak tedbirlerden biridir?

- A) Nöbetleşe ekim yapmak
B) Toprakları nadasa bırakmak
C) Ağaçlandırma çalışması yapmak
D) Araziyi eğim yönüne dik sürmek

20. Aşağıdaki şehirlerden hangileri aynı deprem kuşağı üzerinde yer alır?

- A) Bolu - Erzurum
B) İzmir - Kocaeli
C) Aydın - Düzce
D) Antalya - Erzincan

(533) HZ. MUHAMMED'İN HAY. – 3

1. Aşağıdakilerden hangisi İslamiyet öncesi Mekke'deki kabile anlayışıyla ilgili söylenemez?

- A) Kabiledeki bir kişinin işlediği suç mensup olduğu kabiledeki herkes işlemiş sayılırdı.
B) Bir kabile mensubu haksız da olsa kendi kabilesini savunurdu.
C) Kabileler sosyal yapının temelini oluşturmaktaydı.
D) Bireyler mensubu olacağı kabileyi kendisi seçerdi.

2. On dört asır evvel, yine böyle bir geceydi, Kumdan, ayın on dördü bir öksüz çıktı-verdi. Lakin o ne hüsrandı ki hissetmedi gözler, Kaç bin senedir hâlbuki bekleşmede-lerdi!

Bu dörtlükte Mehmet Akif aşağıdakilerin hangisinden bahsetmektedir?

- A) Öksüz ve yetimlerin önemi
B) Hz. Peygamber'in doğumu
C) Müslümanların karşılaştığı zorluklar
D) Kur'an'ın tüm zamanlara hitap etmesi

3. Aşağıdakilerden hangisi Hz. Peygamber'in toplumsal huzur ve barışa verdiği önem ile ilgili değildir?

- A) Ticaret ile uğraşması
B) Hıfı-l-Fudul'a katılması
C) Medine Sözleşmesi'ni yapması
D) Hudeybiye Antlaşması'nı imzalaması

3. OTURUM

4. Aşağıdakilerden hangisi ilk Müslümanlardan biri değildir?

- A) Hz. Hatice
- B) Hz. Ali
- C) Hz. Ömer
- D) Hz. Ebu Bekir

5. İslam dini, bir müminin aşağıdaki sıfatlardan hangisine sahip olmasını tavsiye eder?

- A) Cimrilik
- B) Doğruluk
- C) Kibir
- D) Haset

6. Aşağıdakilerden hangisi hicretin Müslümanların hayatında meydana getirdiği önemli sonuçlardan biri değildir?

- A) Medine Devri başlamıştır.
- B) İslam hızlı yayılma evresine girmiştir.
- C) Müslümanlar Mekkelilerin baskısından kurtulmuştur.
- D) Yahudilerin hepsinin Müslüman olmasıyla güç kazanmışlardır.

- 7. • Allah yolunda hicret edenlere denir.
- Peygamberimizin Medine'deki mescididir.
- Hz. Peygamber Medine'de farklı inanç gruplarının bir arada huzur ve düzen içinde yaşamasını sağlamak amacıyla hazırlamıştır.

Bu bilgilerde aşağıdakilerden hangisinin tanımı verilmemiştir?

- A) Hudeybiye Antlaşması
- B) Medine vesikası
- C) Mescid-i Nebi
- D) Muhacir

- 8. Yok mu, ey yolcu, bu yoldan dönmek; Yeniden Refref'e binmek yok mu? Göğe çıktın yine... Lakin bu sefer, Ya Muhammed, yere inmek yok mu? Bu dörtlükte aşağıdakilerden hangisi vurgulanmaktadır?

- A) Peygamberimizin doğumu
- B) Peygamberimizin vefatı
- C) Medine'ye hicreti
- D) Taif yolculuğu

9. Her fırsatta Allah'a kendisine sağlık bahsetmesi için dua eden bir kimsenin aşağıdakilerden hangisini yapması bu isteğiyle çelişir?

- A) Organik gıda tüketmesi
- B) Düzenli yürüyüşler yapması
- C) Sigarayı alışkanlık haline getirmesi
- D) Mevsimin gerektirdiği şekilde giyinmesi

- 10. "Allah bana ondan daha hayırlısını vermedi. Halk bana inanmazken o inandı. Herkes bana yalancı derken o doğru söylediğimi kabul etti. Kimse bana bir şey vermezken o beni malıyla destekledi ve Cenab-ı Hak ondan bana çocuklar ihsan etti." (Hadis)

Hz. Peygamber'in bu sözlerinde övdüğü hanımı aşağıdakilerden hangisidir?

- A) Hz. Hatice
- B) Hz. Safiye
- C) Hz. Zeynep
- D) Hz. Aişe

11. Aşağıdakilerden hangisi Hz. Peygamber'in sağlığa faydalı olduğu için tavsiye ettiği davranışlardan biri değildir?

- A) Bal yemek
- B) Kan vermek
- C) Spor yapmak
- D) Selam vermek

- 12. Hz. Muhammed (sav.) öfkelendiği zaman öfkesine kapılmayıp haksızlık yapmaz, sevdiklerini ölçülü sever, onları zaman zaman uyarır ve kayırmazdı.

Bu durum aşağıdakilerden hangisi için örnek oluşturur?

- A) İnançta denge
- B) İbadetlerde denge
- C) Duygularda denge
- D) Harcamalarda denge

- 13. İnanç konusundaki aşırılıklardan biri insanları fazlasıyla yüceltmedir. Tarih boyunca bazı insanlar peygamberleri ölçüsüzce yücelterek onların Allah'ın oğlu olduğunu iddia etme gibi aşırılıklara gitmişlerdir.

Aşağıdakilerden hangisi bu konuda Kur'an-ı Kerim'in verdiği örneklerden biridir?

- A) Hz. Âdem
- B) Hz. İsa
- C) Hz. Musa
- D) Hz. Yusuf

- 14. Bir iş yaparken acele etmemek, yapılacak işin öncesini ve sonrasını düşünmektir. Hata yapma ihtimalini asgariye indiren, insanı pişmanlığa düşmekten koruyan güzel bir özelliktir. Davranışlarda dengeli olmak için bu özelliğe çokça ihtiyaç duyulur.

Hakkında bilgi verilen bu kavram aşağıdakilerden hangisidir?

- A) İhsan
- B) Hilm
- C) Tevazu
- D) Teenni

- 15. Hz. Peygamber, Uhut dağı kadar dahi altını olsa onu hiç beklemeden ihtiyaç sahiplerine dağıtacağını belirtmiştir.

Aşağıdaki hadislerden hangisi bu durum ile ilişkilidir?

- A) Asıl yiğit öfkelendiği zaman öfkesine hâkim olan kişidir.
- B) Yüce Allah işi sağlam ve iyi yapmanızdan hoşnut olur.
- C) Allah cömerttir, cömertliği sever.
- D) Ameller niyetlere göredir.

16. Aşağıdakilerden hangisi şirkle ilgili doğru bir bilgi değildir?

- A) Allah'a ortak koşmaktır.
- B) Sapkın bir inançtır.
- C) İnançta aşırılığa düşmektir.
- D) Küçük günahlardandır.

- 17. "Benim kalbim temiz, ibadet yapmam gerekmez." gibi ifadeler dinimizin ilkeleriyle örtüşmeyen yanlış sözlerdir. Allah'ın emri olan ibadetleri yapmaksızın böyle bir iddiada bulunmak doğru değildir. Bu hususta Allah insanları Kur'an-ı Kerim'de uyarmaktadır.

Aşağıdaki ayetlerden hangisi bu konudaki uyarılardan biridir?

- A) "... Siz kendinizi temize çıkarmayın. Kimin gerektiği şekilde kullukta bulunduğunu en iyi Allah bilir." (Necm suresi, 32. ayet)
- B) "Allah gökleri ve yeri hak ve hikmete uygun olarak yaratmıştır. İşte bunda inananlar için bir ibret vardır." (Ankebüt suresi, 44. ayet)
- C) "Rabbinin kitabından sana vahyedileni oku. O'nun kelimelerini değiştirecek hiçbir kimse yoktur..." (Kehf suresi, 27. ayet)
- D) "Ey iman edenler! Allah'a karşı gelmekten sakının ve doğrularla beraber olun." (Tevbe suresi, 119. ayet)

18. Hangisi münafıklarla ilgili söylenemez?

- A) Dostlarını yarı yolda bırakırlar.
- B) Çıkarları değerlerinden önemlidir.
- C) İkiyüzlü, çelişkili ve kararsız insanlardır.
- D) Hz. Peygamber'in vefatından sonra ortaya çıkmışlardır.

3. OTURUM

	KONU	HADİSLER
19. I.	İbadette Denge	Sizden biriniz namaz kıldığı zaman, onu hafif tutsun.
II.	İnançta Denge	Allah'ın en çok hoşuna giden amel, az da olsa devamlı olanıdır.
III.	Davranışta Denge	Söz ve davranışlarında ileri gidip haddi aşanlar helak oldular.
IV.	Harcamalarda Denge	Kibirsiz ve israf etmeden yiyiniz, içiniz, giyiniz ve sadaka veriniz.

Bu tablodaki konu ve hadis eşleştirmelerinden hangisi yanlıştır?

- A) I. B) II. C) III. D) IV.

20. Hz. Peygamber'in - - - - olarak adlandırılan kabri Medine'de Mescid-i Nebevi'nin içinde bulunmaktadır.

Bu cümlede boş bırakılan yere aşağıdakilerden hangisi getirilmiştir?

- A) Cennet'ül Mualla
B) Cennet'ül Baki
C) Ravza-i Mutahhara
D) Ashab-ı Suffa

(534) HZ. MUHAMMED'İN HAY. – 4

1. Aşağıdakilerden hangisi İslam dininin ibadet özgürlüğüne verdiği öneme örnek oluşturur?

- A) Bir Yahudi cenazesi geçerken Hz. Peygamber'in ayağa kalkması
B) Hz. Peygamber'in Necranlı Hristiyanların mescitte ibadet etmelerine izin vermesi
C) II. Mehmet'in İstanbul'u fethedince farklı din mensuplarını dinlerinde serbest bırakması
D) Kudüs'ü fetheden Hz. Ömer'in orada yaşayan Hristiyan ve Yahudilerin ibadet özgürlüğünü teminat altına alması

2. I. İnanç ve ibadet özgürlüğü
II. Düşünce ve ifade özgürlüğü
III. Ekonomik Özgürlük

İslam dinine göre her insanın doğuştan sahip olduğu temel hak ve özgürlükler hangi seçenekte verilmiştir?

- A) Yalnız I B) I ve II.
C) II ve III. D) I, II ve III.

3. Aşağıdakilerden hangisi düşünce ve ifade özgürlüğü için söylenmez?

- A) Kişinin doğuştan elde ettiği hak ve özgürlüklerden biridir.
B) İstişare yapmak düşünce özgürlüğüne verilen önemi gösterir.
C) Düşüncelerin her ortamda ve istenilen şekilde ifade edilmesidir.
D) Toplumsal hayatı kolaylaştırır, çeşitli alanlarda gelişmeye katkı sağlar.

4. İslam dinine göre aşağıdaki yargılardan hangisi yanlıştır?

- A) Hakaret etmek, küçümsemek, azarlamak aşağılamak da ifade özgürlüğünün bir sonucudur.
B) Kamu düzenini bozacak ve insanların temel haklarına zarar verecek türden davranışları açıkça işlemek ve teşvik etmek özgürlük olarak değerlendirilemez.
C) Hak ve özgürlüklerin kullanımı, haramlar işlenmediği ve başkalarının özgürlüklerine zarar verilmediği müddetçe serbesttir.
D) Konuşma hürriyeti adı altında haramların reklamını yapmak, insanları teşvik etmek doğru kabul edilmez.

5. Aşağıdakilerden hangisi özgürlük kapsamında değerlendirilebilir?

- A) Müziğin sesini başka evlerin de duyabileceği kadar açmak
B) Kişinin katılmadığı bir düşünceyi eleştirmesi
C) Trafikte araç hızını istediği kadar artırmak
D) Bireyin dilediği yerde sigara içmesi

6. Hz. Peygamber hicretten sonra Medine pazarını kurdu. Böylece Medine ekonomisini Yahudilerin tekelinden kurtardı. Serbest piyasa şartlarının oluşmasını sağladı. İktisadi hayatta uyulması gereken bazı kuralları koydu. Bu konuda kontrol ve düzenleme işini kendisi üstlendi.

Hz. Peygamber bununla aşağıdakilerden hangisini amaçlamış olamaz?

- A) Ekonomik özgürlükleri korumayı
B) Yahudilere ticaret öğretmeyi
C) İktisadi hayatı geliştirmeyi
D) Adaleti sağlamayı

7. İmanın hür iradeye dayalı olması aşağıdakilerden hangisi ile daha çok ilişkilidir?

- A) İnanç ve ibadet özgürlüğü
B) Düşünce ve ifade özgürlüğü
C) Mülk edinme özgürlüğü
D) Seyahat özgürlüğü

8. Bir defasında Hz. Muhammed (sav.) Hz. Ali'ye şöyle dedi: "Sana iki kişi muhakeme olmak için geldiğinde hiçbir zaman ikisini de dinlemeden karar verme. Çünkü doğruyu bulmak her ikisini de dinlediğinde mümkündür."

Bu metinde Müslüman bir yöneticinin görev ve sorumluluklarından hangisi dile getirilmektedir?

- A) Eğitim-öğretimi sağlamak
B) Liyakate önem vermek
C) İstişare etmek
D) Adaletli olmak

9. Veda Haccı için Mekke'ye giden Hz. Peygamber'in kafilesinde kadınlar da vardı. Develerin yürüyüş düzenini sağlayan Enceşe adında bir genç, coşkuyla şiir okuyor, ezgiler söylüyordu. Bu durum develerin hızlanmasına, üzerindeki kadınların rahatsız olmasına neden oluyordu. Hz. Peygamber müdahale ederek : "Enceşe! Sakin ol. Kristalleri dikkatli taşı!" dedi.

Bu metinde Hz. Muhammed (sav.)'in hangi özelliği öne çıkmaktadır?

- A) Hayvanlara merhametli davranma
B) Kadınlara değer verme
C) Emanete sahip çıkma
D) Şiire önem verme

10. "O müminler öyle kimselerdir ki eğer kendilerine yeryüzünde bir iktidar verirse namazı dosdoğru kılarlar, zekâtı verirler, marufu (iyi ve güzel olan şeyleri) emrederler, münkerden (kötü ve çirkin olan şeylerden) vazgeçirmeye çalışırlar..."

(Hac suresi, 41. ayet)

Bu ayette yöneticide bulunması gereken hangi özelliğe değinilmiştir?

- A) Liyakate önem verme
B) İyiliğe teşvik etme
C) İbadete özen gösterme
D) Kötülüğü engelleme

3. OTURUM

11. "İşçinin ücretini alın teri kurumadan ödeyiniz."

Bu hadiste aşağıdaki davranışlardan hangisi için bir uyarı yapılmıştır?

- A) İşçiyi gücünü aşan işte çalıştırmak
- B) Çalışanlar arasında ayırım yapmak
- C) Çalıştırdığı elemanları küçümsemek
- D) Çalışanına ücretini geciktirerek ödemek

12. Medine Sözleşmesi'nde "Yahudiler müminlerle birlikte bir topluluklardır. Yahudilerin dinleri kendilerine, müminlerin dinleri de kendilerinedir. Buna gerek kendileri gerekse müttefikleri dâhildir." maddesi yer almaktadır.

Bu durum İslam dininin aşağıdakilerden hangisine önem verdiğini göstermektedir?

- A) İfade özgürlüğüne
- B) İnanç özgürlüğüne
- C) Ekonomik özgürlüklere
- D) Kültürün korunmasına

13. "Müminlerin iman bakımından en mükemmeli, ahlakı en iyi olanıdır. Sizin en hayırlılarınız da kadınlara karşı hayırlı olanlarıdır."

Bu hadisten aşağıdakilerden hangisine ulaşılamaz?

- A) Ahlak sahibi bir müminin imanı Allah katında daha değerlidir.
- B) Kadınlara iyi davranmak ahlakın bir gereğidir.
- C) Ahlak aile içinde de varlığını göstermelidir.
- D) Çocukların da aile içinde görevleri vardır.

14. **Aşağıdakilerden hangisi İslam'a göre bir yöneticinin görevleri arasında sayılamaz?**

- A) Hukuka saygılı olmak
- B) Halkın menfaatini düşünmek
- C) Kararları tek başına almak
- D) Herkese hakkını teslim etmek

15. **İslamiyet'e göre özgürlüklerin sınırları konusunda aşağıdaki ifadelerden hangisi yanlıştır?**

- A) Ekonomik özgürlük helallerle sınırlıdır.
- B) Düşünme özgürlüğü başkasına hakaret içeriyorsa sınırlandırılır.
- C) İfade özgürlüğü kamu düzenini ve toplumsal huzuru bozuyorsa sınırlandırılır.
- D) İbadet özgürlüğü yaygın olan inancın ibadetleriyle sınırlandırılır.

16. **Aşağıdakilerden hangisi İslam'a göre kadın erkek ilişkilerinde bulunması gereken özelliklerden biri değildir?**

- A) Zenginlik
- B) Hoşgörü
- C) Nezaket
- D) Sabır

17. **Yönetilenlerin yöneticilere karşı tutumlarında aşağıdakilerden hangisinin bulunmaması gerekir?**

- A) İlkeli olma
- B) Fitneden uzak durma
- C) Menfaat bekleme
- D) Sınırsız sevgi, saygı gösterme

18. **Müslümanların fethettikleri topraklarda uyguladığı tutumlardan hangisi inanç ve ibadet özgürlüğü ile ilgilidir?**

- A) Yeşil alanlara zarar vermemişler, su kaynaklarını kirletmemişlerdir.
- B) Din adamlarına, kilise, havra ve sinagoglara zarar vermemişlerdir.
- C) Kadınlara, çocuklara, yaşlılara merhametle yaklaşmışlardır.
- D) İnsanların evine, malına zorla sahip olmamışlardır.

19. "Kaynaşmanız için size kendi cinsinizden eşler yaratıp, aranızda sevgi ve merhamet peyda etmesi O'nun varlığının delillerindendir..."

(Rûm suresi, 21. ayet)

Bu ayete göre evlilik ile ilgili aşağıdakilerden hangisine ulaşılabılır?

- A) Neslin korunması için iyi bir yoldur.
- B) Helal ve meşru bir şekilde olmalıdır.
- C) Sevgi ve merhamet temeline dayanmalıdır.
- D) İki tarafın da hak ve sorumlulukları vardır.

20. **İslam insanlara kazanma ve kazandıklarını harcama gibi ekonomik haklar verir. Fakat malını, kendine veya topluma zarar verecek şekilde harcaması yasaklanmıştır.**

Buna göre aşağıdakilerden hangisi ekonomik bir hak olamaz?

- A) Miras
- B) Ticaret
- C) Rüşvet
- D) Hibe

(542) TÜRK DİLİ VE ED. – 2

- I. Ciddi ve bilimsel bir dille oluşturulur.
- II. Olay, gözlem ve izlenimler günü gününe yazılır.
- III. Yazar, kişiliğini ve görüşlerini yazılarına yansıtmaz.
- IV. Herhangi bir konu sınırlaması yoktur.

"Günlük" türü ile ilgili verilen bu cümlelerin hangilerinde bilgi yanlışları vardır?

- A) I ve II.
- B) I ve III.
- C) II ve IV.
- D) III ve IV.

2. Türküler ve mektuplardan söz etmek kaçınılmaz olarak ayrılıktan ve hasretten söz etmek olacaktır. Sadece şiirlerin, edebiyat ve sanat eserlerinin değil, türkülerin ve mektubun da önemli temasıdır ayrılık. Taşındıkları olumsuz çağırışına ve içerdikleri acılı yaşam biçimine karşın oluşturuca bir güçtür. Ayrılık olmasaydı türkülerin de mektupların da birçoğu olmayacaktı kuşkusuz.

Bu parçada anlatılmak istenen aşağıdakilerden hangisidir?

- A) Türkü ve mektup birer edebî türdür.
- B) Türkü ve mektup birbirini etkileyen türlerdir.
- C) Türkü ve mektubun kaynağı kavuşma isteğidir.
- D) Her türkü ve mektubun acıklı bir hikâyesi vardır.

3. **Tiyatro ile ilgili aşağıdakilerden hangisi yanlıştır?**

- A) Günümüzde sahnede canlandırılmak üzere yazılan eserler "tiyatro", "oyun" ve "piyes" olarak adlandırılmaktadır.
- B) Dramatik eserler olayların gelişimine göre "perde" ve "sahne"lere ayrılır.
- C) Dramatik eserlerin merkezinde bir olay ve bu olaya katılan kişiler bulunur.
- D) Eski Latin edebiyatından doğan tiyatro "oyun oynanan yer" anlamında kullanılmaktadır.

3. OTURUM

4. I. Tirat : Sessiz hareketlerle oynanan oyun.
II. Replik : Kişilerin birbirine söyledikleri sözler.
III. Suför : Oyuncuların el-kol hareketleri.
IV. Kulis : Oyuncuların sahne hazırlıkları yaptıkları yer.

Numaralanmış tiyatro terimlerinden hangileri yanlış açıklanmıştır?

- A) I ve II. B) I ve III.
C) II ve IV. D) III ve IV.

5. Aşağıdakilerden hangisi Ahmet Kutsi Tecer'e ait bir tiyatro değildir?

- A) Koçyiğit Köroğlu
B) Nalınlar
C) Satılık Ev
D) Yazılan Bozulmaz

6. Fransız edebiyatının tanınmış fablazarıdır. Sade bir dille yazdığı fabllarında hayvanları kişileştirerek onların şahıslarında bazı insan karakterlerini eleştirmiştir. Fabllarında ahlak dersi vermeyi amaçlayan sanatçının pek çok eseri Orhan Veli Kanık ve Tevfik Fikret tarafından Türkçeye çevrilmiştir.

Bu parçada hakkında bilgi verilen sanatçı aşağıdakilerden hangisidir?

- A) La Fontaine B) Victor Hugo
C) Stendhal D) Balzac

7. Kişiden kişiye olmakla birlikte bir gazete veya dergide yayımlanmak üzere yazılmış olan mektuplardır. "Millî Edebiyat Meselesi ve Cenap Bey'le Münakaşalarım, "İrfan Paşa'ya Mektup", "Okuruma Mektuplar" bu türün en önemli örnekleri arasında yer alır.

Bu parçada hakkında bilgi verilen tür aşağıdakilerin hangisidir?

- A) Edebî mektup
B) Manzum mektup
C) Açık mektup
D) Kişiden kişiye yazılan mektup

8. - - - - , görüntülerin veya çizilmiş desenlerin ışıkla bir perdeye düşürülerek hareketli görüntüler elde edilmesi temeline dayanan sanat dalıdır.

Bu cümlede boş bırakılan yere aşağıdakilerden hangisi getirilmelidir?

- A) Sinema B) Opera
C) Operet D) Tiyatro

9. Aşağıdaki eserlerden hangisi **Nurullah Ataç'a** aittir?

- A) Mavi ve Kara
B) Günlerin Getirdiği
C) Düş'ün Payı
D) Kültür ve Dil

10. Aşağıdakilerden hangisi panelin **düzenlenme aşamalarından biri değildir**?

- A) Konuşmacıların belirlenmesi
B) Paneli yönetecek başkanın belirlenmesi
C) Başkanın panel konusunu ve konunun önemini belirtmesi
D) Başkanın konuşmacılar hakkında ki düşüncelerini açıklaması

11. "Kısa film"le ilgili aşağıdakilerin **hangisinde bilgi yanlış yapılmıştır?**

- A) Genellikle 30 ila 60 dakika uzunluğunda yoğun anlatıma sahip bir türdür.
B) Amaç kısa bir sürede bir görsel eseri perdeye en iyi biçimde yansıtmaktır.
C) Ses ve görüntü kalitesi sahne çekimlerinden sonra kontrol edilmelidir.
D) Filmi çekenin yaratıcılığı, teknik bilgisi ve yeteneği filmin başarısında rol oynar.

12. Aşağıdakilerden hangisi **edebiyatımızdaki önemli masal derleyicilerinden biridir?**

- A) Pertev Naili Boratav
B) Mehmet Akif Ersoy
C) Tevfik Fikret
D) Namık Kemal

13. • Dramlarda hayatın tüm gerçeklerinin yansıtılması amaçlanır.
• İnsan karakterinin gülünç ve aksak yönlerini ele alan oyunlar "karakter komedisi" olarak adlandırılır.
• Trajedilerde kahramanlar genellikle günlük hayatta karşılaşılabileceğimiz, sıradan kimselerdir.

Bu cümleler doğru-yanlış olarak değerlendirildiğinde sıralama aşağıdakilerden hangisi olur?

- A) D – Y – Y B) Y – D – D
C) D – D – Y D) Y – Y – D

14. Edebiyat ve sinema birer sanat dalı ve iletişim aracıdır. Bu iki tür aynı zamanda tarih boyunca insanları kültür, bilgi, eğlence ve estetik zevk bakımından geliştirme işlevini de yüklenmiştir. Edebiyat, dille yapılan bir sanat etkinliği iken sinema dille ortaya çıkarılan ürünün görüntüye dönüştürülmesidir. Anlatmaya bağlı edebiyat metninin temelinde olan kurgu, sinema ile edebiyatın ortak bağıdır. Özellikle romanlar, sinemanın edebiyattan yararlandığı en önemli kaynaktır. Bu çerçevede dünya klasiklerinin neredeyse tümü sinema filmi hâline getirilmiştir.

Bu parçadan aşağıdakilerin hangisi çıkarılamaz?

- A) Edebiyat ürünleri, sinemanın ana malzemesi olmaya uygundur.
B) Edebiyat ve sinemanın ortak işlevi vardır.
C) Sinemadaki görsellik, edebiyata göre daha fazladır.
D) Romanların yazılma amacı, sinemaya uyarlanmaktır.

15. Bir fare ile kurbağa bir ırmak kenarında karşılaşmış arkadaş olmuşlar. Kendilerine uygun bir vakit tayin edip her sabah köşelerinden çıkarak gelir, ırmak kenarında buluşurlarmış. Gönülleri bu buluşmanın şevkiyle ferahlanmış, birbirlerine hikâyeler anlatıp eğlenmişler.

Bu parça aşağıdaki türlerin hangisine örnektir?

- A) Tiyatroya B) Fabla
C) Romana D) Halk hikâyesine

16. I. Genellikle öğrenilen geçmiş zaman veya geniş zamanın rivayeti ile anlatılır.
II. Tüm masalların kaynağı bellidir.
III. Olumlu ve olumsuz değerlerin çatışması üzerine kuruludur.
IV. Olaylar günlük yaşama uygun, gerçekçi bir şekilde verilir.

Numaralanmış özelliklerden hangileri masal için söylenemez?

- A) I ve II. B) I ve IV.
C) II ve III. D) II ve IV.

17. Aşağıdakilerden hangisi **etkili dinlemenin ilkelerinden değildir**?

- A) Dinleme öncesinde konuşmacı veya konuyla ilgili genel bir bilgi edinmek
B) Konuşmacı ve konuya ön yargısız yaklaşmak
C) Dinlenenlerle ilgili önemli noktaları not almak
D) Konuşmacının eksik ve hatalarını anında düzeltmek

18. Mektup yazışmaları bilgisayar ve İnternet teknolojisi ile şekil değiştirmiş, mektubun yerini e-posta almıştır. Ancak toplum hayatında geniş yer tutan e-posta, henüz bir edebî tür olarak kabul görmemektedir.

Aşağıdakilerden hangisi bu durumun nedenleri arasında sayılamaz?

- A) Anlatımın mümkün olduğunca kısa ve net olması
B) Sanatsal bir üslubunun olmaması
C) Günümüzde yaygın olarak kullanılması
D) Başkalarının okuması için yayımlanmaması

19. Tiyatro eserleri sahnede oynanmadan hayata kavuşmadığı için her yazar yaşadığı dönemin söz varlığını kullanmak zorundadır. Zira sahnede telaffuz edilen her kelime, seyirciler tarafından anlaşılmalıdır. Anlaşılmayan eserler ölü gider. Tanzimat'tan sonra yazılan eserlerimizde maalesef bu duruma dikkat edilmemiş ve birkaç eserin dışında çoğu yitip gitmiştir.

Bu parçada tiyatro ile ilgili anlatılmak istenen aşağıdakilerden hangisidir?

- A) Kullanılan dil halkın kullandığı dile uzak düşmemelidir.
B) Tanzimat Dönemi'nden sonra bu türde eser verilmemiştir.
C) Bu türdeki eserlerin kalıcılığı ya kalaması oldukça zordur.
D) Sahnelenmek için yazılan tek tür tiyatrodur.

20. Edebiyatımızın önemli oyun yazarlarından. TRT İstanbul Radyosu Tiyatro Bölümü'nde dramaturg olarak çalışan yazar, konusunu Osmanlı tarihinden alan ve televizyona da uyarlanan oyunlarıyla tanınmıştır. "Deli İbrahim", "IV. Murat", "Genç Osman" ve "Keziban" oyunlarından bazılarıdır.

Bu parçada hakkında bilgi verilen sanatçı aşağıdakilerden hangisidir?

- A) Turan Oflazoğlu
B) Refik Erduran
C) Orhan Asena
D) Turgut Özakman

(608) DEM. VE İNSAN HAK. – 2

1. I. Ülke
II. Eşitlik
III. Egemenlik

Yukarıdakilerden hangileri devletin varlığı için zorunlu olan öğelerdendir?

- A) Yalnız I B) I ve II.
C) I ve III. D) II ve III.

2. **Aşağıdakilerden hangisi siyasi haklar arasında yer alır?**

- A) Kamu hizmetlerine girme
B) Kişi dokunulmazlığı
C) Sendika kurma
D) Dinlenme

3. I. Doğal haklar anlayışı
II. Hümanizm düşüncesi
III. Kuvvetler ayrılığı prensibi

İnsan hakları düşüncesinin gelişmesinde yukarıdakilerden hangileri etkili olmuştur?

- A) I ve II. B) I ve III.
C) II ve III. D) I, II ve III.

4. • Bir hukuk düzeni tarafından düzenlenen geniş bir serbestlik alanıdır.
• Belli bir hukuk düzeni içerisinde, hukuk kurallarının kişilere belli yönde davranmaya izin vermesi, belli şeyleri istemeye yetkili kılmasıdır.

Tanımlanan bu kavramlar aşağıdakilerin hangisinde sırasıyla verilmiştir?

- A) Hak - ödev
B) Özgürlük - hak
C) Özgürlük - eşitlik
D) Eşitlik - özgürlük

5. **Aşağıdakilerden hangisi demokrasinin ilke ve kurumlarından değildir?**

- A) Siyasi partiler
B) Seçimler ve temsil
C) Çoğulculuk ve katılım
D) Özgürlüklerin sınırsızlığı

6. Adalet; şerefli yaşamak, herkese payına düşeni vermek ve kimseye zarar vermemektir.

Bu adalet tanımı aşağıdaki düşünürlerden hangisine aittir?

- A) Kant B) Platon
C) Hobbes D) Grotius

7. I. Tevhid-i Tedrisat Kanunu'nun çıkarılması
II. Kadınlara seçme ve seçilme hakkının verilmesi
III. Mevcut Anayasa'ya "Türkiye Devleti'nin yönetim biçimi cumhuriyettir." ibaresinin eklenmesi

Yukarıdakilerden hangileri 1924 Anayasası döneminde gerçekleşmiştir?

- A) Yalnız I B) Yalnız II
C) I ve III. D) II ve III.

8. Üyelerinin düşünce ve menfaatlerini gerçekleştirmek için, iktidarı kısmen ya da tamamen elde etmek amacıyla siyasi hayata katılan teşkilatlanmış bir gruptur.

Yukarıda hangi kavramın tanımı verilmiştir?

- A) Siyasi parti B) Sivil toplum
C) Çoğulculuk D) Seçim sistemi

9. **Ülkemizde kanunların Anayasa'ya uygunluğunu denetleyen yüksek yargı organı aşağıdakilerden hangisidir?**

- A) Danıştay
B) Sayıştay
C) Yargıtay
D) Anayasa Mahkemesi

10. **Seçimlerle ilgili aşağıda verilen uygulamalardan hangisi demokratik toplum düzeninin kurulmasını zorlaştırır?**

- A) Genel oy
B) Gizli oy
C) Kısıtlı oy
D) Açık sayım döküm

11. **İnsan Hakları Evrensel Bildirgesi 1948 yılında aşağıdakilerden hangisi tarafından kabul edilmiştir?**

- A) TBMM
B) Avrupa Birliği
C) Birleşmiş Milletler Örgütü
D) Avrupa Güvenlik ve İşbirliği Teşkilatı

12. • Çalışma ücretlerinin artırılması
• Çalışma koşullarının düzenlenmesi
• Çalışanlara iş güvencesi sağlanması
Birleşmiş Milletler Örgütü'nün bu amaçlarla faaliyet gösteren uzmanlık kuruluşu aşağıdakilerden hangisidir?

- A) Uluslararası PEN Kulübü
B) Uluslararası Çalışma Örgütü
C) İnsan Hakları İçin Uluslararası Birlik
D) Uluslararası Hukuk Komisyonu

3. OTURUM

13. Aşağıdaki davranışlardan hangisi demokrasiye ters düşer?
- A) Farklı inançlara hoşgörülle yaklaşma
B) Devlet yönetiminde söz sahibi olma
C) Başkalarının haklarına saygılı olma
D) Düşüncelerini söylemekten kaçınma
14. Aşağıdakilerden hangisi uluslararası sivil toplum örgütlerinin faaliyet alanlarından değildir?
- A) Açlık, kıtlık ve salgın hastalıkların ortadan kaldırılması
B) Hızlı nüfus artışının desteklenmesi
C) Düşünce özgürlüğü ihlallerinin önlenmesi
D) Gelir adaletsizliğinin önlenmesi
15. Aşağıdakilerden hangisi insan hakları ihlallerine yol açmaz?
- A) İç çatışmalar
B) Terör eylemleri
C) Çevre kirliliğinin önlenmesi
D) Bilim ve teknolojinin kontrolsüz kullanımı
16. "Osmanlı Devleti'nde III. Selim'in orduyu modernleştirmek, iyileştirmek için yaptığı çalışmalar" aşağıdaki kavramlardan hangisine örnektir?
- A) İnkılabı B) Gerilemeye
C) Reforma D) Gelenekçiliğe
17. Rönesans'la birlikte aşağıdakilerden hangisi önem kazanmıştır?
- A) İnsan aklı
B) Dini inançlar
C) Toplumun ön yargıları
D) Gelenek ve görenekler
18. Aşağıdakilerden hangisi Atatürk'ün demokrasi ve insan hakları konusundaki görüşlerini yanıtmaz?
- A) Egemenliğin halka ait olması
B) Özgürlüklerin sınırsız olması
C) Baskıcı yönetim anlayışının reddedilmesi
D) Din ve vicdan hürriyetinin varlığı
19. I. Halk iradesinin üstün tutulması
II. Halk arasında sosyal dayanışmanın olması
III. Bazı kişi ya da gruplara ayrıcalık tanınması
- Yukarıdakilerden hangileri halkçılık ilkesinin anlamları arasında yer alır?
- A) I ve II. B) I ve III.
C) II ve III. D) I, II ve III.

20. Atatürk İnkılabının öncelikli amacı aşağıdakilerden hangisidir?
- A) Halifeliği kaldırmak
B) Halkın egemenliğine dayalı bir devlet sistemi kurmak
C) Dünya barışının kalıcılığını sağlamak
D) Vatanın bağımsızlığını ve milletin özgürlüğünü sağlamak

(615) SEÇ. DİL VE ANLA. – 5

1. Kardeşim Kaplan,
Ankara, 27 Ocak 1944
Bir yığın can sıkıntısı, üzüntü ve yorucu iş arasında mektubuna cevap veremedim. O bir tarafa, o güzel makalene de vaktinde teşekkür etmek lazımdı. Fakat daha iyisi tebrik etmeliyim. Çünkü hakikaten güzel makaleydi. Artık birinci sınıf bir muharrir olduğuna hiç şüphe etmiyorum.
- Bu parça aşağıdaki mektup türlerinden hangisine örnektir?**
- A) İş mektubuna
B) Edebî mektuba
C) Resmî mektuba
D) Açık mektuba
2. Aşağıdakilerden hangisi olay çevresinde oluşan metne örnektir?
- A) Doğu ve güneydoğudan gelen derelerin iki kıyısında kümelenmiş olan ağaçlık, bostan ve bahçeler Ankara Ovası'nın doğasına hâkim olan boz rengi yırtan iki kalın yeşillik çizgisi hâlinde göze çarpıyordu. Hatip Çayı; Ankara halkının, bağı bahçesi olmayan çoğunluğun yazlık gezinti, eğlence ve piknik yeriydi.
B) Öteden beri esnaf dükkânlarının duvarlarında mesaj niteliğinde sözler asılıdır. Daha ziyade sülüs ve talik stili olan bu yazılar esnaflar için vazgeçilmezdir.
C) Memidik; söğüt yaprağı bıçağını olanca hızıyla kınından çekti, bıçak ay ışığında bir şimşek mavisi gibi parlayarak havada geniş bir yay çizdi. Memidik'in bütün bedeni avına atılmaya hazır kaya atmacaları gibi gerildi.
D) Sözcüklerin temel ve yan anlamlarının yanı sıra bir de duygu değerleri vardır. Ancak kimi sözcüklerde bu bulunmayabilir. Söz gelimi aç, üçgen, teğet sözcüklerinin duygusal bir değeri yoktur; kimi sözcüklerde ise çeşitli tasarımlar ve duyguları içeren ayrı bir katman var gibidir.

3. Mektup ile ilgili aşağıdakilerden hangisi yanlıştır?
- A) Çizgisiz beyaz kâğıda yazılmalıdır.
B) Karalama yapılmamalı, yazım kurallarına uyulmalıdır.
C) Anlatılmak istenen, açık ve kesin ifadelerle anlatılmalıdır.
D) Kurşun kalemle yazılma zorunluluğu vardır.
4. Batılı anlamda anı - - - - ile edebiyatımıza girmiştir.
- Bu cümlede boş bırakılan yere aşağıdakilerden hangisi getirilmelidir?**
- A) Tanzimat Dönemi
B) Servetifünun Dönemi
C) Fecriatî Dönemi
D) Millî Edebiyat Dönemi
5. • Kişi sadece eğitim hayatını ele alır.
• Gerçeklerin yanında hayaller de anlatılır.
• Özel bir anlayışla kaleme alınır.
- Bu cümleler otobiyografi açısından doğru-yanlış olarak değerlendirildiğinde sıralama aşağıdakilerden hangisi olur?**
- A) D – Y – Y B) Y – D – Y
C) D – D – Y D) Y – Y – D
6. Aşağıdaki eserlerden hangisi sohbet türündedir?
- A) Anadolu Notları
B) Eşref Saati
C) Türk'ün Ateşle İmtihanı
D) Hac Yolunda
7. (I) Gece 21.00 sularında açıklama yapan İstanbul Orman Bölge Müdürü, adadaki yangının söndürüldüğünü açıkladı. (II) Bölge Müdürü, yangın sonucu yaklaşık 40 hektar alanın tahrip olduğunu belirtti. (III) Öğle saatlerinde çıkan yangın, itfaiye ekiplerinin özverili çalışması sonucu hava kararıırken kontrol altına alındı. (IV) Saat 21.00 civarında tamamen söndürülen yangının soğutma çalışmaları sabaha kadar devam etti.
- Bir haber yazısından alınan bu parçada numaralanmış cümlelerin hangisinde özne yapıya yer verilmiştir?**
- A) I. B) II. C) III. D) IV.

3. OTURUM

8. Fıkra türünün tanımı aşağıdakilerden hangisidir?

- A) Bir konuda bilgi vermek, bir gerçeği açıklamak ya da ispatlamak için her türlü kanıttan faydalanan, bunları bilimsel biçimde inceleyen fikir yazıdır.
- B) Bir düşünceyi, dönemi, sanatçıyı veya sanat eserini inceleyip olumlu ve olumsuz yönlerini değerlendirmek için yazılan yazıdır.
- C) Bir kişinin duygu ve gözlemlerini düzenli bir biçimde, tarih atarak, günü gününe yazdığı yazıdır.
- D) Bir yazarın güncel ve önemli herhangi bir konu üzerinde kişisel görüş ve düşüncelerini akıcı bir dille, belgelendirme gereği duymadan ele aldığı yazıdır.

9. Dünya edebiyatında deneme türünün ilk örneklerini veren sanatçı aşağıdakilerden hangisidir?

- A) Bacon B) Montaigne
C) Alain D) Stendhal

10. - - - -; kelime anlamı olarak konuşma, görüşme, oturup söyleşme demektir. Bu türün en önemli özelliği okuyucuyla konuşur gibi yazılmasıdır.

Bu parçada boş bırakılan yere aşağıdakilerden hangisi getirilmelidir?

- A) Fıkra B) Sohbet
C) Makale D) Eleştiri

11. Hacivat - (Gelir) Aman, Karagöz, niçin bu kadar hiddet ediyorsun? Bendeniz mahzâ konuşmaya geldim. Karagöz - Masa tokuşmaya mı geldin? Hacivat - Canım öyle değil, biraz hasbihal etmeye geldim. Karagöz - Beni sana bakkal diye kim anlattı?

Bu parça aşağıdakilerden hangisine örnek olarak gösterilir?

- A) Gazete çevresinde gelişen öğretici metne
B) Coşku ve heyecana bağlı edebî metne
C) Göstermeye bağlı edebî metne
D) Kişisel hayatı anlatan öğretici metne

12. Aşağıdakilerden hangisi coşku ve heyecanı dile getiren metinlerin özelliklerinden biri değildir?

- A) Kelimeler daha çok yan ve mecaz anlamda kullanılır.
B) Bu metinlerde asıl amaç düşünürmek ve öğretmektir.
C) Duyguların ifade edilmesi önemlidir.
D) Dil, heyecana bağlı işlevde kullanılır.

13. I. Hikâye II. Makale III. Orta oyunu IV. Biyografi

Numaralanmış edebî türlerden hangileri öğretici metindir?

- A) I ve III. B) I ve IV.
C) II ve III. D) II ve IV.

14. Yaşamın her anı özeldir. Bu özel anları insan yazıya geçirerek ölümsüzleştirilebilir. Saatler hatta dakikalar bile yazılacak özel şeyler barındırır. Geleceğe güzel bir şeyler bırakmak isteyenler bu türle özel anlarını, günlerini kayıt altına alırlar.

Bu parçada yazarın bahsettiği edebî tür aşağıdakilerden hangisidir?

- A) Günlük B) Gezi yazısı
C) Biyografi D) Fıkra

15. 1958 yılıydı. Orta bir, yani ilköğretim sistemine göre altıncı sınıf öğrencisiydim. Beşinci sınıfta da birlikte okuduğum, şimdi 60 yaşında kocaman bir adam olan en yakın arkadaşım Ahmet'le birlikte her sabah erkenden otobüse binip Mersin'den Tarsus'taki okulumuza giderdik. Üç dört tane eski püskü otobüs vardı Mersin-Tarsus arasında gidip gelen. 45 dakikayla bir saat arasında sürerdi yolculuğumuz.

Bu parça aşağıdaki türlerin hangisinden alınmıştır?

- A) Mektuptan B) Günlükten
C) Anıdan D) Biyografiden

16. • Bu tür yazılara eski edebiyatta tercümeihâl denirdi. • Biyografinin ilk büyük yazarı Fransız sanatçı Baudlaire'dir. • Şairlerin hayatları hakkında bilgi veren şüara tezkireleri de bu türe örnektir.

"Biyografi" ile ilgili verilen bu cümleler doğru-yanlış olarak değerlendirildiğinde sıralama aşağıdakilerden hangisi olur?

- A) Y – Y – D B) D – D – Y
C) Y – D – D D) D – Y – D

17. Hasankeyf'e doğru ilerlerken Raman Dağları'nın, petrol kuyularının arasından geçtim ve dağlarda mağaralar görünmeye başladı. Sağımda o büyük, muhteşem, yemyeşil vadiyle Dicle akıyor; solumda asırlar öncesinden günümüze kadar varlığını sürdürmüş mağaralar tebessüm ediyor. Hasankeyf, yaklaştıkça insanı kendine daha da çekiyor ve efsanevi bir güzelliğe bürünüyor.

Bu parça aşağıdakilerden hangisine örnektir?

- A) Gezi yazısına B) Günlüğe
C) Mektuba D) Fıkraya

18. Aşağıdakilerden hangisi haber yazılarının özelliği olamaz?

- A) İlgi çekici B) Yanıltıcı
C) Tarafsız D) Çarpıcı

19. Aşağıdakilerden hangisi denemenin edebiyatımızdaki en önemli temsilcilerinden biridir?

- A) Nurullah Ataç
B) Mehmet Akif Ersoy
C) Tevfik Fikret
D) Halide Edip Adivar

20. Bir düşünceyi, dönemi, sanatçıyı veya sanat eserini inceleyip olumlu ve olumsuz yönlerini değerlendirmek için yazılan yazılardır.

Bu cümlede tanımı yapılan tür aşağıdakilerden hangisidir?

- A) Fıkra B) Makale
C) Eleştiri D) Deneme

(616) SEÇ. DİL VE ANLA. – 6

1. Röportaj; araştırma, inceleme ve soruşturmaya dayanan bazı gerçeklerin ortaya çıkmasına yardımcı olan bir türdür. - - - - ise soru ve cevaplardan oluşur. Bu türde yazar, kendi düşüncelerini ortaya koymaz.

Bu parçada boş bırakılan yere aşağıdakilerden hangisi getirilmelidir?

- A) Mülakat B) Söylev
C) Anı D) Deneme

2. - - - -, sözlü anlatım türlerinden biridir.

Bu cümlede boş bırakılan yere aşağıdakilerden hangisi getirilemez?

- A) Röportaj B) Söylev
C) Roman D) Mülakat

3. OTURUM

3. Çocuk kitapları çocukların estetik duygusunu, sanat zevkini, şekil verme bilincini, duyu dünyasını zenginleştirir. Onları sosyal olaylara karşı duyarlı kılmalıdır. Görev anlayışını uyandırmalıdır. Çevre bilincini kuvvetlendirmelidir. Öğrenme şevkini ve merak duygusunu artırmalıdır. Ana dilini kullanma becerilerini zenginleştirmeli, dilin güzelliklerini ve gücünü fark ettirmelidir. Kitap; çocuğa vatan, millet, bayrak sevgisi kazandırmalıdır.

Bir mülakattan alınan bu parça aşağıdaki sorulardan hangisine cevap niteliğindedir?

- A) Çocuk kitapları çocuklara ne tür özellikler kazandırmalıdır?
B) Çocuk edebiyatının gelişimi konusunda ne düşünüyorsunuz?
C) Günümüzde çocuk kitapları çocukların gelişimine katkı sağlıyor mu?
D) Çocuklara kitap okuma alışkanlığı kazandırmak için neler yapılmalıdır?

4. Bir yeri konu alan röportaj aşağıdaki türlerden hangisi ile benzerlik gösterir?

- A) Söylev B) Sohbet
C) Gezi yazısı D) Mülakat

5. Aşağıdaki eserlerden hangisi röportaj türünde yazılmamıştır?

- A) Ustalarla Konuşmalar
B) Çukurova Yana Yana
C) Telsiz Duvaksız Anadolu
D) Günlerin Götürdüğü

6. II. Meşrutiyet Dönemi'nin en tanınmış söylevcileri Ömer Naci ve Hamdullah Suphi'dir. Cumhuriyet Dönemi'nin en büyük söylevci ise - - - -

Bu parçada boş bırakılan yere aşağıdakilerden hangisi getirilmelidir?

- A) Behçet Kemal Çağlar'dır.
B) Mustafa Kemal Atatürk'tür.
C) Rıza Tevfik Bölükbaşı'dır.
D) Süleyman Nazif'tir.

7. Aşağıdakilerden hangisi söylevcinin yapması gerekenlerden biri değildir?

- A) Konuşmasını jest ve mimiklerle desteklemek
B) Dinleyicilerin kültür düzeylerini dikkate almak
C) Ses tonunu sürekli yüksek tutmak
D) Söylevini etkili, heyecanlı ve açık cümlelerle bitirmek

8. Gaz lambalarının ortaya çıkışı 18. yüzyılın başlarına denk gelir. Yassılaştırılmış bir fitili gaz tankının içinden geçirerek, en üste ise koruyucu bir şişe ekleyerek yapılan gaz lambalarına ilk formunu İsviçre vatandaşı Argand vermiş. 1775'te Leger ve Alstroemer tarafından ayrı ayrı bulunan yassı fitilin de bu buluşun ortaya çıkmasına katkısı büyüktür. Türkiye'de ise 1800'lü yılların sonlarına doğru ev, dükkân ve kahvehanelerde gaz lambaları ile aydınlatma yapıldığını biliyoruz.

Gaz lambasının tarihi gelişiminin anlatıldığı bu metin aşağıdaki türlerin hangisine örnektir?

- A) Eleştiriye B) Sohbet
C) Söyleve D) Röportaja

9. (I) Mısır'da sıcaklık sürekli yüksek değildir, evlerde ona göre yapılmıştır. (II) En sıcak günlerde odaların harareti 28 dereceden fazla olmaz. (III) Fakat bir yaz günü İstanbul böyle değildir. (IV) Doğup büyüdüğüm, bütün dostlarımın yaşadığı İstanbul gözlerimin önüne geliyor şimdi.

Bir röportajdan alınan bu parçada numaralanmış cümlelerin hangisinde yazım yanlışı vardır?

- A) I. B) II. C) III. D) IV.

10. Aşağıdaki cümlelerin hangisinin sonuna soru işareti getirilmelidir?

- A) Yağmurun ne zaman yağacağı belli olmaz
B) Anneler Isparta'da kaç gün kalacakmış
C) Toplantıya kimlerin katılacağını bilmiyoruz
D) Kar yağdı mı bütün çocuklar sokağa çıkardı

11. Aşağıdakilerden hangisi sözlü anlatım türlerinden biri değildir?

- A) Deneme B) Röportaj
C) Mülakat D) Söylev

12. Osmanlı'dan günümüze ayakkabının tarihi gelişimi ile ilgili üç günlük bir yazı dizisi hazırlayan bir gazeteci bunu yayımladığında ortaya bir - - - - çıkmış olacaktır.

Bu cümlede boş bırakılan yere aşağıdakilerden hangisi getirilmelidir?

- A) mülakat B) eleştiri
C) röportaj D) gezi yazısı

13. Toplum peşinden sürükleyen lider karakterli insanların aşağıdaki türlerin hangisinde de başarılı olması beklenir?

- A) Mülakat B) Röportaj
C) Eleştiri D) Söylev

14. Aşağıdaki cümlelerin hangisinde "ki"nin yazımıyla ilgili bir yanlışlık yapılmıştır?

- A) Evvel ki akşam komşulara oturmaya gitmiştik.
B) Önceki soruyu tam anlayamadığını söylüyordu.
C) Hâlbuki hepimizin ona sonsuz güveni vardı.
D) Duyduk ki Ali Bey tayin isteyip Ankara'ya gidecekti.

15. Parlatır: Bir de şunu öğrenmek isterim Cengiz Bey. Dünya edebiyatına bakışınız nasıl? Özellikle roman sanatı açısından...

Aytmatov: Şüphesiz, romancılık büyük bir seviyeye geldi. Roman dalında adı geçmeyen milletlerin klasikleri oluşmaya başladı artık.

Parlatır: Dünyadaki değişimlerin romana yansımalarını düşünüyor musunuz?
Aytmatov: Elbette, elbette.

Bu parça aşağıdaki türlerin hangisinden alınmıştır?

- A) Söylevden B) Mülakattan
C) Sohbetten D) Eleştiriden

16. Mustafa Kemal Atatürk'ün İzmir İktisat Kongresi'nde yaptığı konuşma aşağıdakilerden hangisine örnektir?

- A) Dinsel söylev
B) Hukuksal söylev
C) Askerî söylev
D) Ekonomik söylev

17. Aşağıdaki atasözlerinin hangisinin sonuna üç nokta(...) getirilir?

- A) Kır atın yanında duran ya huyundan ya suyundan
B) Duvarı nem yıkar, insanı gam
C) Alma mazlumun ahını, çıkar aheste aheste
D) Sakla samanı, gelir zamanı

18. Söylev türünün ilk örnekleri - - - - Dönemi'nde görülür.

Bu cümlede boş bırakılan yere aşağıdakilerden hangisi getirilmelidir?

- A) Çin Medeniyeti
B) Mısır Medeniyeti
C) Eski Yunan ve Roma
D) Sümer Medeniyeti

3. OTURUM

19. Aşağıdakilerden hangisi tanınmış mülakat yazarlarından biri değildir?

- A) Ruşen Eşref Ünaydın
- B) Yavuz Bülent Bakiler
- C) Hikmet Feridun Es
- D) Sermat Sami Uysal

20. Söylevi gerçekleştiren kişiye ne ad verilir?

- A) Eleştirmen
- B) Yazar
- C) Sanatçı
- D) Hatip

(626) SEÇ. TÜRK ED. – 6

1. Yenilikçi fikirleriyle servetifünun edebiyatının oluşumuna zemin hazırlayan sanatçı aşağıdakilerden hangisidir?

- A) Muallim Naci
- B) Recaizade Mahmut Ekrem
- C) Samipaşazade Sezai
- D) Namık Kemal

2. Servetifünun Dönemi içinde şair olarak bilinen sanatçının edebî görüşlerini ifade eden yazıları oldukça önemlidir. "Şiirimiz" adıyla Servet-i Fünun dergisinde yayımladığı uzun makalesinde topluluğun sanat anlayışını ve eleştirilerini dile getirmiştir.

Bu parçada hakkında bilgi verilen sanatçı aşağıdakilerden hangisidir?

- A) Tefvik Fikret
- B) Cenap Şahabettin
- C) Süleyman Nazif
- D) Ali Ekrem Bolayır

3. - - - -, Cenap Şahabettin'in gezi hatıralarını topladığı bir kitaptır. Bu kitapta yazarın Bulgaristan, Romanya, Macaristan, Çekoslovakya, Almanya ve Avusturya'ya yaptığı gezilerdeki izlenimleri anlatılmıştır.

Bu parçada boş bırakılan yere aşağıdaki eserlerden hangisi getirilmelidir?

- A) Göz Ucuyla Avrupa
- B) Avrupa Mektupları
- C) Frankfurt Seyahatnamesi
- D) Romanya Mektupları

4. I. Edebiyatımızın ilk gerçekçi hikâye ve romancılarındandır.
II. Romanlarında sade bir dil kullanmıştır.
III. En önemli romanları Yaban ve Kiralık Konak'tır.
IV. Mensur şiir türünde eser vermiştir.

Numaralanmış cümlelerin hangileri Halit Ziya Uşaklıgil için söylenemez?

- A) I ve II.
- B) II ve III.
- C) II ve IV.
- D) III ve IV.

5. Bir beyaz lerze, bir dumanlı uçuş;
Eşini gaip eyliyen bir kuş
Gibi kar
Geçen eyyam-ı nevbaharı arar.
Ey kulübün sürûd-ı şeydası
Ey kebuterlerin neşideleri,
O baharın bu işte ferdası:
Kapladı bir derin sükûta yeri
Karlar
...

Cenap Şahabettin'in "Elhan-ı Şita" adlı şiirinden alınan bu dizeler göz önünde bulundurulduğunda Servetifünun Dönemi şiiri için aşağıdakilerden hangisi söylenir?

- A) "Sanat, toplum içindir." anlayışıyla toplumsal konular işlenmiştir.
- B) Şiirler dörtlükler hâlinde yazılmıştır.
- C) Sanatlı ve ağır bir dil kullanılmıştır.
- D) Şiirde güzellik kaygısı değil, mesaj verme isteği ön plandadır.

6. Ben romanda gerçeklerin tüm çıplaklığıyla anlatılmasından yanayım. Yazar, gözlemlerini eserine aynen aktarmalı; eserde kişiliğini gizlemelidir. Roman, okuyucuda gerçeklik duygusu uyandırmalıdır.

Düşüncelerini bu şekilde açıklayan bir yazarın, aşağıdaki akımların hangisine bağlı kalarak yazması beklenir?

- A) Realizm
- B) Klasisizm
- C) Romantizm
- D) Sembolizm

7. Aşağıdakilerden hangisi servetifünun edebiyatının genel özelliklerinden biri değildir?

- A) "Kulağa göre kafiye" anlayışı benimsenmiştir.
- B) Aydınlarla seslenen sanatlı bir dil kullanılmıştır.
- C) Şiirde aruz ölçüsü tercih edilmiştir.
- D) Toplumsal konular ele alınmıştır.

8. I. "Sanat, şahsi ve muhteremdir." ilkesiyle hareket etmişlerdir.
II. Sade ve açık bir dille eser vermişlerdir.
III. Edebiyatımıza çok önemli yenilikler getirmişlerdir.

Fecriati edebiyatıyla ilgili numaralanmış bu cümleler doğru – yanlış olarak değerlendirildiğinde sıralama aşağıdakilerden hangisi olur?

- A) Y - D - D
- B) D - Y - Y
- C) D - D - Y
- D) Y - D - Y

9. - - - -, Osmanlı Devleti'nin gücünü Türk tarihi ve Türk kültüründen alması, "Türk ulusu" fikrinin yayılması düşüncesidir.

Bu cümlede boş bırakılan yere aşağıdakilerden hangisi getirilmelidir?

- A) Türkçülük
- B) Osmanlıcılık
- C) Batıcılık
- D) İslamcılık

10. I. Dilde sadeleşme esastır.
II. Halkın sorunları dile getirilmiştir.
III. Aruz ölçüsü kullanılmıştır.
IV. Divan şiiri nazım biçimleri tercih edilmiştir.

Numaralanmış özelliklerden hangileri Millî Edebiyat Dönemi için söylenemez?

- A) I ve II.
- B) I ve III.
- C) II ve IV.
- D) III ve IV.

11. Mehmet Emin Yurdakul'un şiirlerinde dil ve ölçüyle başlayan - - - -, Ziya Gökalp ve Ömer Seyfettin gibi yazarlarla geliştirilmiştir.

Bu cümlede boş bırakılan yere aşağıdakilerden hangisi getirilmelidir?

- A) Cumhuriyet Dönemi Türk Edebiyatı
- B) Millî Edebiyat
- C) Servetifünun
- D) Fecriati

12. "Edebiyatıcedide" olarak da bilinen edebî dönem aşağıdakilerden hangisidir?

- A) Servetifünun edebiyatı
- B) Divan edebiyatı
- C) Fecriati edebiyatı
- D) Millî Edebiyat

3. OTURUM

13. Destinde ey semâ-yı şitâ tûde tûdedir
Berg-i semen, cenâh-ı kebûter,
sehâb-ı ter
Dök ey semâ-revân-ı tabiat
gunûdedir
Hâk-i siyâhın üstüne sâfi şükûfeler
Bu dizeler için aşağıdakilerin hangisi söylenemez?

- A) Servetifünun Dönemi zihniyetini yansıtmaktadır.
B) Kafiye ve redife yer verilmiştir.
C) Oldukça sanatlı ve ağır bir dil kullanılmıştır.
D) Toplumsal fayda amacı güdülmektedir.

14. "Adalar, Kamer ve Zühre şairi" olarak şöhret kazandı. Şiirlerinde Ahmet Haşim etkisi görülür. Az da olsa Âti ve Servet-i Fünun dergilerinde tiyatro eleştirileri de yazmıştır.

Bu parçada hakkında bilgi verilen sanatçı aşağıdakilerden hangisidir?

- A) Tahsin Nahit
B) Şahabettin Süleyman
C) Mehmet Rauf
D) Faik Ali

15. Edebiyatımızda mensur şiirin ilk başarılı örneklerini - - - vermiştir.

Bu cümlede boş bırakılan yere aşağıdakilerin hangisi getirilmelidir?

- A) Yakup Kadri Karaosmanoğlu
B) İbrahim Şinasi
C) Recaizade Mahmut Ekrem
D) Halit Ziya Uşaklıgil

16. Aşağıdaki romanlardan hangisi Yakup Kadri Karaosmanoğlu'na ait değildir?

- A) Nur Baba
B) Kiralık Konak
C) Sinekli Bakkal
D) Sodom ve Gomore

17. I. Tüm şiirlerini "Eğil Dağlar" adlı eserinde toplamıştır.
II. "Toplum için sanat" anlayışını benimsemiştir.
III. Manzum hikâyelerinde insanların yaşamını gerçekçi bir şekilde anlatmıştır.
IV. Romanlarıyla Tanzimat'tan Cumhuriyet'e kadar olan dönemi işlemiştir.

Numaralanmış cümlelerin hangilerinde "Mehmet Akif Ersoy" ile ilgili bilgi yanlış vardır?

- A) I ve II. B) I ve IV.
C) II ve III. D) III ve IV.

18. Aşağıdakilerden hangisi Millî Edebiyat Dönemi'nde Türkçülük akımına hizmet eden dergilerden biri değildir?

- A) Türk Derneği
B) Türk Yurdu
C) Aydede
D) Genç Kalemler

19. I. Türkçülük akımını düzenleyip bir sisteme bağladı.
II. Ulusal ölçümüzün aruz olduğunu savundu.
III. Şiirlerinde sanat ve estetiği ön plana çıkardı.
IV. Konuşma ve yazı dilinin bir olması gerektiğini söyledi.

Numaralanmış özelliklerden hangileri Ziya Gökalp için söylenemez?

- A) I ve II. B) I ve IV.
C) II ve III. D) III ve IV.

20. Öz şiir anlayışının Türk edebiyatındaki en önemli temsilcileri - - - - ve - - - -.

Bu cümlede boş bırakılan yerlere aşağıdakilerden hangileri getirilmelidir?

- A) Ziya Gökalp – Nazım Hikmet'tir
B) Mehmet Akif Ersoy – Mehmet Emin Yurdakul'dur
C) Ahmet Haşim – Yahya Kemal Beyatlı'dır
D) Cenap Şahabettin – Tevfik Fikret'tir

(975) GİRİŞİMCİLİK – 2

1. Kâr amacıyla mal ve hizmet üretmek ya da pazarlamak için üretim faktörlerini bir araya getiren ekonomik birime - - - - denir.

Verilen cümlede boş bırakılan yere, aşağıdakilerden hangisi yazılmalıdır?

- A) işletme B) tüccar
C) pazarlama D) finansman

2. Aşağıdakilerden hangisi fizibilite etüdünün yapılış amaçlarındandır?

- A) Araştırma giderlerini artırmak
B) İşletmenin hangi büyüklükte ve nerede kurulacağını belirlemek
C) Prototip üretimi yapacak tesisi kurmak
D) Müşterilerden gelen şikayetleri dinlemek

3. Aşağıdakilerden hangisi bir yatırım projesinin gelişim süreçlerinden biri değildir?

- A) Fabrikanın kurulması
B) Proje fikrinin doğuşu
C) Ön fizibilite etüdü
D) Fizibilite etüdü

4. Aşağıdakilerden hangisi, fizibilite etüdünün araştırma aşamalarındandır?

- A) İş planı
B) Pazar stratejisi
C) Araştırma-Geliştirme
D) Örgütsel araştırmalar

5. Özel bir girişimcinin yapacağı yatırıma temel oluşturacak ön projelerin değerlendirilmesinde ana ölçüt, aşağıdakilerden hangisidir?

- A) İstihdam
B) Üretimin temel süreçleri
C) Projenin yöre için önemi
D) Girişimin sağlayacağı kâr

6. Aşağıdakilerden hangisi, iyi bir iş planının girişimciye sağlayacağı yararlarından biri değildir?

- A) Yatırım kararı almış girişimciye rehberlik eder.
B) İşletmenin pazara yakınlığını sağlar.
C) Girişimcilerin ve çalışanların dikkatini amaca yöneltir.
D) İşletmenin pozisyonunu gösterir.

7. Aşağıdaki bilgilerden hangisi bir iş planının "Girişimcinin Kişisel Bilgileri" bölümünde yer alır?

- A) Medeni Hâli
B) Ürün / Hizmet Satış Planı
C) İş Yeri Ruhsat Bilgileri
D) Gelir / Gider / Kaynak Analizleri

8. Mal ya da hizmetleri bireysel gereksinimleri için alanlara "son tüketici" denir.

Bu tanıma göre, aşağıdakilerden hangisi son tüketicidir?

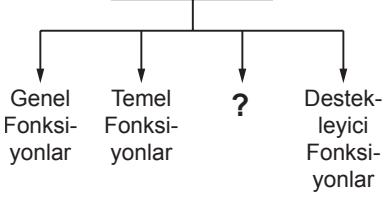
- A) Normal insanlar
B) Fabrikatörler
C) Girişimciler
D) Robotlar

3. OTURUM

9. Aşağıdakilerden hangisi, girişimcilerin iş fikri geliştirme konusunda kullanabilecekleri başlıca yöntemlerden değildir?

- A) Rüyada görme
- B) Yeni bir iş fikri geliştirme
- C) Başkalarının iş fikirlerini model alma
- D) Başkalarından yeni iş fikirleri satın alma

10. İşletmenin Temel Fonksiyonları



Verilen şemada boş bırakılan yere, aşağıdakilerden hangisi getirilmelidir?

- A) Kolaylaştırıcı Fonksiyonlar
- B) Sanatsal Fonksiyonlar
- C) Sanal Fonksiyonlar
- D) Dinî Fonksiyonlar

11. İnternet girişimciliğinde paranın yerini, aşağıdakilerden hangisi almıştır?

- A) Hazine bonoları
- B) Kredi kartları
- C) Senet
- D) Çek

12. Aşağıdaki açıklamalardan hangisi satış işleminin gerçekleşmesine yöneliktir?

- A) Ürün mülkiyetinin devredilmesi
- B) Ürün fiyatının teslim edilmesi
- C) Satıcının fiyata razı olması
- D) Arzın sağlanması

13. Aşağıdakilerden hangisi bir işletmenin dış çevresinde yer alır?

- A) Üretim
- B) Finans
- C) İş gücü
- D) Personel

14. Aşağıdakilerden hangisi kamu işletmesi değildir?

- A) Kooperatifler
- B) Özel bütçeli işletmeler
- C) Kamu İktisadi Teşekkülleri
- D) Özerk Bütçeli Devlet İşletmeleri

15. İşletmelerde insan davranışlarının hedeflenen amacı gerçekleştirmek için yönlendirilmesine ne ad verilir?

- A) Yürütme
- B) Motivasyon
- C) Yönelme
- D) Organizasyon

16. Aşağıdakilerden hangisi, hukuki şekilleri bakımından işletmeler grubunda yer almaz?

- A) Kamu İşletmeleri
- B) Özel İşletmeler
- C) Ticaret İşletmeleri
- D) Yabancı Sermayeli İşletmeler

17. Aşağıdaki bankalardan hangisi, ülkemizdeki KOBİ'lere (küçük ve orta büyüklükteki işletmeler) en büyük kredi desteği veren kuruluştur?

- A) Sümerbank
- B) Ziraat Bankası
- C) Türk Eximbank
- D) Türkiye Halk Bankası

18. Aşağıdakilerden hangisi talebin özelliklerinden değildir?

- A) Tanıma süreci
- B) Satın alma gücü
- C) Doygunluk dönemi
- D) Çevre ile etkileşim

19. Türk Ticaret Kanunu'na göre; bir ticari işletmeyi kısmen de olsa kendi adına işleten kişiye ne ad verilir?

- A) İşletmeci
- B) Müdür
- C) Tacir
- D) İşçi

20. Aşağıdakilerden hangisi franchising türü değildir?

- A) Ürün ve marka franchisingi
- B) Uluslararası franchising
- C) Ulusal franchising
- D) Patent franchisingi

TEST BİTTİ.
CEVAPLARINIZI KONTROL EDİNİZ.

CEVAP KÂĞIDI VE SORU KİTAPÇIĞI İLE İLGİLİ AÇIKLAMALAR

1. Cevap kâğıdınızdaki bilgilerin doğruluğunu kontrol ediniz ve cevap kâğıdınızı mürekkepli kalemle imzalayınız.
2. Cevap kâğıdı üzerinde kodlamalarınızı siyah kurşun kalemle yapınız.
3. Değiştirmek istediğiniz bir cevabı, yumuşak silgiyle cevap kâğıdını örselemeden temizce siliniz ve yeni cevabınızı kodlayınız.
4. Soru kitapçığının sayfalarını görevlilerin uyarıları doğrultusunda kontrol ediniz, baskı hatası var ise değiştirilmesini sağlayınız.
5. Soruların çözümü için size ayrıca boş kâğıt verilmeyecektir. Soru kitapçığının içindeki boş alanları soru çözümleri için kullanabilirsiniz.
6. Her sorunun dört seçeneğinden sadece biri doğrudur. Doğru seçeneği, cevap kâğıdınızın ilgili sütununa soru numarasını dikkate alarak yuvarlağın dışına taşırmadan kodlayınız. Soru kitapçığı üzerinde yapılan cevaplandırmalar dikkate alınmayacaktır.
7. Cevaplamaya istediğiniz dersin sorusundan başlayabilirsiniz. Cevabını bilmediğiniz sorular üzerinde fazla zaman kaybetmeden diğer sorulara geçiniz. Zamanınız kalırsa bu sorulara daha sonra dönebilirsiniz.
8. Yanlış cevaplarınız dikkate alınmadan sadece doğru cevaplarınız üzerinden puanlama yapılacaktır.
9. Soruları ve sorulara verdiğiniz cevapları, yanınızda götürmek amacıyla kaydetmeyiniz; hiçbir şekilde dışarı çıkarmayınız.
10. Sınav bitiminde soru kitapçığı ve cevap kâğıdını salon görevlilerine teslim ediniz.

SALON GÖREVLİLERİNCE SINAV BAŞLAMADAN ÖNCE ADAYLARA YAPILACAK SON UYARILAR

- Soracağınız bir şey varsa şimdi sorunuz, sınav başladıktan sonra sorularınıza cevap verilmeyecektir.
- Başlama zilini bekleyiniz.

Hepinize başarılar dileriz.

(Salon başkanı başlama ve bitiş saatini tahtaya yazacaktır.)

Bu kitapçığın her hakkı saklıdır. Hangi amaçla olursa olsun, kitapçığın tamamının veya bir kısmının Millî Eğitim Bakanlığı Ölçme, Değerlendirme ve Sınav Hizmetleri Genel Müdürlüğünün yazılı izni olmadan kopya edilmesi, fotoğraflarının çekilmesi, bilgisayar ortamına alınması, herhangi bir yolla çoğaltılması, yayımlanması veya başka bir amaçla kullanılması yasaktır. Bu yasağa uymayanlar, doğabilecek cezai sorumluluğu ve kitapçığın hazırlanmasındaki mali külfeti peşinen kabullenmiş sayılır.

8 EKİM 2017 TARİHİNDE YAPILAN AÇIKÖĞRETİM LİSESİ / MESLEKİ AÇIKÖĞRETİM LİSESİ
2016-2017 ÖĞRETİM YILI EK SINAVI 3. OTURUM T KİTAPÇIĞI CEVAP ANAHTARI

(113) DİN KÜL. AHL. BİL. – 3

1. A
2. D
3. A
4. D
5. B
6. C
7. B
8. A
9. C
10. B
11. D
12. C
13. C
14. A
15. D
16. A
17. D
18. B
19. D
20. B

(116) DİN KÜL. AHL. BİL. – 6

1. D
2. C
3. A
4. D
5. A
6. D
7. B
8. D
9. C
10. A
11. B
12. D
13. A
14. B
15. D
16. B
17. C
18. A
19. B
20. C

(124) SEÇMELİ FELSEFE – 2

1. C
2. A
3. A
4. B
5. D
6. A
7. B
8. B
9. D
10. C
11. A
12. B
13. C
14. D
15. A
16. D
17. B
18. C
19. D
20. C

(134) TARİH– 4

1. C
2. C
3. B
4. D
5. B
6. B
7. A
8. C
9. D
10. A
11. D
12. A
13. D
14. B
15. C
16. B
17. A
18. D
19. B
20. A

(114) DİN KÜL. AHL. BİL. – 4

1. B
2. D
3. C
4. D
5. A
6. C
7. B
8. C
9. B
10. A
11. C
12. A
13. D
14. D
15. C
16. B
17. D
18. A
19. B
20. B

(122) FELSEFE – 2

1. C
2. D
3. A
4. B
5. C
6. B
7. D
8. D
9. B
10. C
11. D
12. C
13. B
14. A
15. C
16. A
17. D
18. A
19. A
20. B

(133) TARİH – 3

1. B
2. D
3. A
4. C
5. A
6. C
7. B
8. C
9. D
10. A
11. C
12. D
13. B
14. A
15. B
16. D
17. D
18. B
19. A
20. C

(142) T.C. İNK. TAR. ATA. – 2

1. C
2. A
3. A
4. B
5. D
6. C
7. D
8. B
9. C
10. A
11. D
12. B
13. A
14. C
15. D
16. A
17. B
18. C
19. A
20. B

8 EKİM 2017 TARİHİNDE YAPILAN AÇIKÖĞRETİM LİSESİ / MESLEKİ AÇIKÖĞRETİM LİSESİ
2016-2017 ÖĞRETİM YILI EK SINAVI 3. OTURUM T KİTAPÇIĞI CEVAP ANAHTARI

(153) COĞRAFYA – 3

1. B
2. B
3. C
4. B
5. A
6. C
7. D
8. D
9. C
10. A
11. A
12. C
13. B
14. D
15. C
16. A
17. D
18. B
19. B
20. A

(158) COĞRAFYA – 8

1. B
2. A
3. A
4. D
5. C
6. C
7. D
8. B
9. C
10. A
11. D
12. C
13. D
14. D
15. C
16. A
17. A
18. B
19. A
20. B

(165) MATEMATİK – 5

1. A
2. C
3. B
4. B
5. C
6. D
7. A
8. C
9. D
10. B
11. A
12. D
13. B
14. C
15. C
16. A
17. D
18. B
19. A
20. B

(209) SOSYOLOJİ – 2

1. D
2. B
3. D
4. B
5. C
6. B
7. A
8. C
9. A
10. C
11. B
12. C
13. D
14. A
15. C
16. A
17. D
18. A
19. A
20. B

(154) COĞRAFYA – 4

1. B
2. D
3. C
4. A
5. A
6. C
7. B
8. D
9. A
10. D
11. A
12. C
13. C
14. A
15. B
16. B
17. C
18. D
19. D
20. C

(163) MATEMATİK – 3

1. D
2. C
3. D
4. A
5. B
6. B
7. A
8. C
9. A
10. B
11. D
12. A
13. C
14. D
15. B
16. A
17. D
18. A
19. B
20. C

(206) PSİKOLOJİ – 1

1. A
2. C
3. C
4. D
5. B
6. D
7. A
8. B
9. A
10. C
11. A
12. C
13. B
14. D
15. C
16. B
17. D
18. A
19. B
20. D

(242) İNGİLİZCE – 3

1. D
2. B
3. A
4. D
5. C
6. B
7. C
8. A
9. B
10. A
11. B
12. A
13. D
14. D
15. C
16. A
17. B
18. C
19. A
20. B

8 EKİM 2017 TARİHİNDE YAPILAN AÇIKÖĞRETİM LİSESİ / MESLEKİ AÇIKÖĞRETİM LİSESİ
2016-2017 ÖĞRETİM YILI EK SINAVI 3. OTURUM T KİTAPÇIĞI CEVAP ANAHTARI

(242) ALMANCA – 3

1. B
2. A
3. C
4. D
5. B
6. A
7. B
8. D
9. C
10. A
11. D
12. B
13. B
14. C
15. A
16. D
17. C
18. A
19. D
20. C

(403) DİL VE ANLATIM – 3

1. C
2. B
3. D
4. C
5. C
6. B
7. D
8. C
9. B
10. A
11. A
12. B
13. A
14. B
15. D
16. D
17. C
18. A
19. D
20. A

(406) DİL VE ANLATIM – 6

1. C
2. D
3. B
4. D
5. D
6. C
7. C
8. B
9. A
10. B
11. D
12. A
13. B
14. C
15. A
16. D
17. B
18. C
19. A
20. A

(416) TÜRK EDEBİYATI – 6

1. C
2. C
3. A
4. A
5. C
6. A
7. D
8. A
9. C
10. D
11. B
12. B
13. D
14. D
15. B
16. C
17. B
18. D
19. A
20. A

(242) FRANSIZCA – 3

1. A
2. C
3. B
4. D
5. D
6. A
7. C
8. B
9. B
10. D
11. A
12. D
13. A
14. D
15. C
16. B
17. C
18. C
19. B
20. D

(405) DİL VE ANLATIM – 5

1. D
2. A
3. D
4. C
5. B
6. C
7. B
8. A
9. D
10. B
11. C
12. B
13. D
14. A
15. B
16. A
17. D
18. C
19. C
20. A

(413) TÜRK EDEBİYATI – 3

1. A
2. B
3. C
4. D
5. C
6. B
7. C
8. B
9. D
10. A
11. B
12. A
13. D
14. B
15. A
16. D
17. A
18. C
19. D
20. C

(426) FİZİK – 6

1. D
2. D
3. A
4. C
5. B
6. B
7. A
8. D
9. D
10. B
11. B
12. D
13. A
14. C
15. B
16. C
17. A
18. D
19. A
20. C

8 EKİM 2017 TARİHİNDE YAPILAN AÇIKÖĞRETİM LİSESİ / MESLEKİ AÇIKÖĞRETİM LİSESİ
2016-2017 ÖĞRETİM YILI EK SINAVI 3. OTURUM T KİTAPÇIĞI CEVAP ANAHTARI

(427) FİZİK – 7

1. D
2. B
3. C
4. A
5. C
6. A
7. C
8. B
9. B
10. B
11. A
12. C
13. C
14. A
15. D
16. D
17. B
18. D
19. C
20. C

(433) KİMYA – 3

1. B
2. C
3. C
4. D
5. A
6. B
7. A
8. D
9. C
10. A
11. D
12. C
13. B
14. C
15. A
16. D
17. C
18. B
19. D
20. D

(435) KİMYA – 5

1. B
2. B
3. A
4. C
5. D
6. B
7. C
8. A
9. D
10. C
11. D
12. C
13. B
14. A
15. B
16. C
17. D
18. A
19. A
20. D

(448) BİYOLOJİ – 8

1. B
2. C
3. A
4. C
5. A
6. A
7. C
8. B
9. D
10. A
11. D
12. B
13. D
14. C
15. B
16. A
17. B
18. D
19. C
20. D

(428) FİZİK – 8

1. D
2. C
3. B
4. B
5. A
6. D
7. C
8. A
9. A
10. D
11. D
12. C
13. B
14. B
15. C
16. B
17. C
18. A
19. C
20. B

(434) KİMYA – 4

1. C
2. B
3. B
4. A
5. D
6. A
7. B
8. A
9. C
10. D
11. B
12. A
13. D
14. C
15. A
16. B
17. A
18. D
19. D
20. C

(445) BİYOLOJİ – 5

1. B
2. C
3. D
4. A
5. C
6. B
7. D
8. C
9. A
10. D
11. A
12. C
13. B
14. A
15. D
16. A
17. B
18. D
19. C
20. B

(452) ÇAĞ. TÜRK DÜN. TAR. – 2

1. D
2. B
3. A
4. C
5. B
6. D
7. D
8. B
9. A
10. C
11. D
12. B
13. A
14. C
15. A
16. D
17. B
18. D
19. C
20. A

8 EKİM 2017 TARİHİNDE YAPILAN AÇIKÖĞRETİM LİSESİ / MESLEKİ AÇIKÖĞRETİM LİSESİ
2016-2017 ÖĞRETİM YILI EK SINAVI 3. OTURUM T KİTAPÇIĞI CEVAP ANAHTARI

(462) EKONOMİ – 2

1. B
2. D
3. A
4. B
5. C
6. C
7. A
8. D
9. D
10. B
11. D
12. A
13. D
14. B
15. D
16. D
17. B
18. C
19. A
20. B

(478) MANTIK – 1

1. B
2. A
3. D
4. C
5. D
6. C
7. B
8. C
9. B
10. C
11. D
12. A
13. D
14. C
15. A
16. B
17. A
18. B
19. C
20. D

(500) ALMANCA – 6

1. A
2. C
3. D
4. A
5. B
6. C
7. D
8. A
9. B
10. C
11. A
12. D
13. C
14. B
15. D
16. B
17. A
18. C
19. D
20. B

(503) SEÇMELİ TARİH – 3

1. D
2. C
3. A
4. B
5. D
6. C
7. B
8. A
9. A
10. B
11. C
12. D
13. B
14. C
15. A
16. B
17. D
18. C
19. B
20. A

(468) MATEMATİK – 8

1. A
2. B
3. D
4. C
5. B
6. B
7. A
8. C
9. A
10. A
11. D
12. B
13. D
14. C
15. D
16. C
17. B
18. B
19. C
20. D

(500) İNGİLİZCE – 6

1. A
2. C
3. D
4. B
5. C
6. A
7. A
8. D
9. B
10. C
11. C
12. A
13. D
14. C
15. B
16. A
17. D
18. A
19. B
20. C

(500) FRANSIZCA – 6

1. D
2. D
3. C
4. D
5. D
6. A
7. C
8. B
9. B
10. A
11. D
12. A
13. A
14. D
15. B
16. C
17. B
18. C
19. B
20. C

(504) SEÇMELİ TARİH – 4

1. A
2. B
3. D
4. C
5. D
6. A
7. C
8. B
9. C
10. A
11. A
12. D
13. B
14. D
15. C
16. A
17. B
18. C
19. D
20. A

8 EKİM 2017 TARİHİNDE YAPILAN AÇIKÖĞRETİM LİSESİ / MESLEKİ AÇIKÖĞRETİM LİSESİ
2016-2017 ÖĞRETİM YILI EK SINAVI 3. OTURUM T KİTAPÇIĞI CEVAP ANAHTARI

(505) SEÇMELİ COĞRAFYA – 3

1. A
2. D
3. B
4. C
5. C
6. D
7. C
8. B
9. A
10. A
11. C
12. B
13. B
14. D
15. A
16. B
17. A
18. A
19. D
20. C

(533) HZ. MUHAMMED'İN HAY. – 3

1. D
2. B
3. A
4. C
5. B
6. D
7. A
8. B
9. C
10. A
11. D
12. C
13. B
14. D
15. C
16. D
17. A
18. D
19. B
20. C

(542) TÜRK DİLİ VE ED. – 2

1. B
2. C
3. D
4. B
5. B
6. A
7. C
8. A
9. B
10. D
11. A
12. A
13. C
14. D
15. B
16. D
17. D
18. C
19. A
20. A

(615) SEÇ. DİL ANLA. – 5

1. B
2. C
3. D
4. A
5. D
6. B
7. C
8. D
9. B
10. B
11. C
12. B
13. D
14. A
15. C
16. D
17. A
18. B
19. A
20. C

(506) SEÇMELİ COĞRAFYA – 4

1. D
2. D
3. A
4. C
5. B
6. A
7. B
8. A
9. C
10. D
11. B
12. D
13. B
14. A
15. C
16. D
17. B
18. D
19. C
20. A

(534) HZ. MUHAMMED'İN HAY. – 4

1. A
2. D
3. C
4. A
5. B
6. B
7. A
8. D
9. B
10. A
11. D
12. B
13. D
14. C
15. D
16. A
17. D
18. B
19. C
20. C

(608) DEM. VE İNSAN HAKLARI – 2

1. C
2. A
3. D
4. B
5. D
6. A
7. B
8. A
9. D
10. C
11. C
12. B
13. D
14. B
15. C
16. C
17. A
18. B
19. A
20. D

(616) SEÇ. DİL ANLA. – 6

1. A
2. C
3. A
4. C
5. D
6. B
7. B
8. D
9. A
10. B
11. A
12. C
13. D
14. A
15. B
16. D
17. A
18. C
19. B
20. D

8 EKİM 2017 TARİHİNDE YAPILAN AÇIKÖĞRETİM LİSESİ / MESLEKİ AÇIKÖĞRETİM LİSESİ
2016-2017 ÖĞRETİM YILI EK SINAVI 3. OTURUM T KİTAPÇIĞI CEVAP ANAHTARI

(626) SEÇMELİ TÜRK EDEB. – 6

1. B
2. D
3. B
4. B
5. C
6. A
7. D
8. B
9. A
10. D
11. B
12. A
13. D
14. A
15. D
16. C
17. B
18. C
19. C
20. C

(975) GİRİŞİMCİLİK – 2

1. A
2. B
3. A
4. D
5. D
6. B
7. A
8. A
9. A
10. A
11. B
12. B
13. C
14. A
15. B
16. C
17. D
18. B
19. C
20. D