

OTURUM

3



T.C.

MİLLÎ EĞİTİM BAKANLIĞI
ÖLÇME, DEĞERLENDİRME VE SINAV HİZMETLERİ
GENEL MÜDÜRLÜĞÜ

T

AÇIK ÖĞRETİM LİSESİ / MESLEKİ AÇIK ÖĞRETİM LİSESİ
2014-2015 ÖĞRETİM YILI 3. DÖNEM SINAVI
3. OTURUM: 09 AĞUSTOS 2015 Saat: 09.30

<u>DERS KODU VE ADI</u>	<u>SAYFA</u>	<u>DERS KODU VE ADI</u>	<u>SAYFA</u>	<u>DERS KODU VE ADI</u>	<u>SAYFA</u>
(113) DİN KÜL. AHL. BİL. – 3	2	(406) DİL VE ANLATIM – 6	28	(500) FRANSIZCA – 6	54
(114) DİN KÜL. AHL. BİL. – 4	3	(413) TÜRK EDEBİYATI – 3	29	(503) SEÇMELİ TARİH – 3	55
(116) DİN KÜL. AHL. BİL. – 6	4	(416) TÜRK EDEBİYATI – 6	30	(504) SEÇMELİ TARİH – 4	56
(122) FELSEFE – 2	6	(426) FİZİK – 6	32	(505) SEÇMELİ COĞRAFYA – 3	58
(124) SEÇMELİ FELSEFE – 2	7	(427) FİZİK – 7	33	(506) SEÇMELİ COĞRAFYA – 4	59
(133) TARİH – 3	8	(428) FİZİK – 8	34	(523) SEÇ. Y. DİL İNG. – 3	60
(134) TARİH – 4	10	(433) KİMYA – 3	36	(523) SEÇ. Y. DİL ALM. – 3	61
(142) T.C. İNK. TAR. ATA. – 2	11	(434) KİMYA – 4	37	(523) SEÇ. Y. DİL FRAN. – 3	62
(153) COĞRAFYA – 3	12	(435) KİMYA – 5	38	(526) SEÇ. Y. DİL İNG. – 6	63
(154) COĞRAFYA – 4	13	(445) BİYOLOJİ – 5	40	(526) SEÇ. Y. DİL ALM. – 6	64
(158) COĞRAFYA – 8	15	(448) BİYOLOJİ – 8	41	(526) SEÇ. Y. DİL FRAN. – 6	65
(163) MATEMATİK – 3	16	(452) ÇAĞ. TÜRK DÜN. TAR. – 2	43	(533) HZ. MUHAMMED'İN HAY. – 3	66
(165) MATEMATİK – 5	18	(462) EKONOMİ – 2	44	(534) HZ. MUHAMMED'İN HAY. – 4	67
(206) PSİKOLOJİ – 1	19	(468) MATEMATİK – 8	45	(608) DEM. ve İNSAN HAK. – 2	69
(209) SOSYOLOJİ – 2	20	(478) MANTIK – 1	46	(613) SEÇ. DİL VE ANLA. – 3	70
(242) İNGİLİZCE – 3	22	(494) GEOMETRİ – 4	47	(615) SEÇ. DİL VE ANLA. – 5	72
(242) ALMANCA – 3	23	(496) GEOMETRİ – 6	50	(616) SEÇ. DİL VE ANLA. – 6	73
(242) FRANSIZCA – 3	24	(497) GEOMETRİ – 7	52	(623) SEÇ. TÜRK ED. – 3	75
(403) DİL VE ANLATIM – 3	25	(500) İNGİLİZCE – 6	53	(626) SEÇ. TÜRK ED. – 6	76
(405) DİL VE ANLATIM – 5	26	(500) ALMANCA – 6	54	(975) GİRİŞİMCİLİK – 2	78

ADAYLARIN DİKKATİNE!

- Her ders için **20** soru bulunmaktadır. Bu oturumda **180** dakikalık cevaplama süreniz vardır. Sınav başladıktan sonra ilk **30** dakika dolmadan dışarı çıkmayınız.
- Sınav sırasında sözlük, hesap cetveli veya makinesi, çağrı cihazı, cep telefonu, telsiz, radyo gibi elektronik iletişim araçlarını yanınızda bulundurmuyunuz. Bu araçları kullanmanız ve kopya çekmeye teşebbüs etmeniz hâlinde sınavınız geçersiz sayılacaktır.
- Başvuru şartlarını taşımadığınız hâlde sınava girmeniz, kopya çekmeniz, başka adayın sınav evrakını kullanmanız, geçerli kimlik belgenizi ve sınav giriş belgenizi ibraz edemediğiniz durumlarda sınavınız geçersiz sayılacaktır.
- Sınavın değerlendirilmesi aşamasında, kopya tespiti hâlinde sınavınız geçersiz sayılacaktır.

CEVAP KÂĞIDI VE SORU KİTAPÇIĞI İLE İLGİLİ AÇIKLAMALAR

- Cevap kâğıdınızdaki bilgilerin doğruluğunu kontrol ediniz ve cevap kâğıdınızı mürekkepli kalemle imzalayınız.
- Cevap kâğıdı üzerinde kodlamalarınızı kurşun kalemle yapınız.
- Değiştirmek istediğiniz bir cevabı, yumuşak silgiyle cevap kâğıdını örselemeden temizce siliniz ve yeni cevabınızı kodlayınız.
- Soru kitapçığının sayfalarını kontrol ediniz, baskı hatası var ise değiştirilmesini sağlayınız.
- Soruların çözümü için size ayrıca boş kâğıt verilmeyecektir. Soru kitapçığının içindeki boş alanları soru çözümleri için kullanabilirsiniz.
- Her sorunun dört seçeneğinden sadece biri doğrudur. Doğru seçeneği, cevap kâğıdınızın ilgili sütununa soru numarasını dikkate alarak yuvarlağın dışına taşırmadan kodlayınız. **Soru kitapçığı üzerinde yapılan cevaplandırmalar dikkate alınmayacaktır.**
- Cevaplamaya istediğiniz dersin sorusundan başlayabilirsiniz. Cevabını bilmediğiniz sorular üzerinde fazla zaman kaybetmeden diğer sorulara geçiniz. Zamanınız kalırsa bu sorulara daha sonra dönebilirsiniz.
- Yanlış cevaplarınız dikkate alınmadan sadece doğru cevaplarınız üzerinden puanlama yapılacaktır.
- Soruları ve sorulara verdiğiniz cevapları, yanınızda götürmek amacıyla kaydetmeyiniz; hiçbir şekilde dışarı çıkarmayınız.
- Sınav bitiminde, soru kitapçığı ve cevap kâğıdını salon görevlilerine teslim ediniz.**

BAŞLAYINIZ DENİLMEDEN SORU KİTAPÇIĞINI AÇMAYINIZ.

3. OTURUM

(113) DİN KÜL. AHL. BİL. – 3

1. “Göklerin ve yerin yaratılışında, gece ile gündüzün birbiri ardınca gelip gidişinde aklıselim sahipleri için gerçekten açık ibretler vardır.” (Âl-i İmran Suresi, 190. Ayet.)

Bu ayette vurgulanan ana düşünce aşağıdakilerden hangisidir?

- A) Allah'ın varlığı
B) Allah'ın adaleti
C) Allah'ın cömertliği
D) Allah'ın merhameti

2. Allah'ın her şeyi görmesi anlamına gelen sıfatı aşağıdakilerden hangisidir?

- A) Hayat
B) Kelam
C) Basar
D) Semi

3. Aşağıdakilerden hangisi meleklerle ait bir özelliktir?

- A) Çoğalılar
B) Yiyip içmezler
C) Ateşten yaratılmışlardır
D) Yalnız Allah'ın katında bulunurlar

4. “Eğer göklerde ve yerde Allah'tan başka ilahlar olsaydı, göklerin ve yerin düzeni bozulurdu...” (Enbiya suresi, 22. Ayet.)

“De ki: Eğer onların iddia ettiği gibi Allah'la beraber (başka) ilahlar olsaydı o zaman o ilahlar da arşın sahibine ulaşmak için elbette bir yol ararlardı.” (İsra suresi, 42. Ayet.)

Bu ayetlerin ortak konusu aşağıdakilerden hangisidir?

- A) Allah'ın sonsuz güç ve kudret sahibi olduğu
B) Allah'ın hiçbir şeye muhtaç olmadığı
C) Her şeyin yaratıcısının Allah olduğu
D) Allah'ın bir ve tek olduğu

5. Allah'ın izni ve emri ile sadece peygamberlerin gösterdiği olağanüstü iş ve hallere ne denir?

- A) Keramet
B) Mucize
C) Vahiy
D) İlham

6. Yüce Allah'ın ezelden ebede kadar olacak bütün şeylerin zamanını ve yerini, özellik ve niteliklerini, ezeli ilmiyle bilip takdir etmesi şeklinde tarif edilen kavram aşağıdakilerden hangisidir?

- A) İrade
B) Tevekkül
C) Kader
D) Kaza

7. Aşağıdakilerden hangisi orucun toplumsal yararadır?

- A) Zenginle fakir arasında yakınlaşma sağlanması
B) Şefkat ve merhamet duygusunu geliştirmesi
C) Sabır gücünü artırması
D) İradeyi güçlendirmesi

8. Aşağıdakilerden hangisi hac'cın farzlarından biri değildir?

- A) Arafat'ta vakfe
B) Kabe'yi tavaf
C) İhram
D) Sa'y

9. Aşağıdakilerden hangisi namazın farzları arasında yer almaz?

- A) Tekbir almak
B) Elleri bağlamak
C) Abdest almak
D) Kibleye dönmek

10. Allah rızası için fert ve toplumun faydasına yapılan her güzel iş aşağıdaki kavramlardan hangisiyle dile getirilir?

- A) Şükür
B) İman
C) Salih amel
D) Ahlak

11. Teravîh namazı hakkında aşağıda verilen bilgilerden hangisi doğrudur?

- A) Vacip bir namazdır.
B) Ramazan ayında kılınır.
C) Akşam ile yatsı arasında kılınır.
D) Cemaatle kılınması zorunludur.

12. “Ey peygamber! Rabb'inden sana indirileni tebliğ et. Eğer bunu yapmazsan onun verdiği görevi yapmamış olursun...” (Maide suresi, 67. Ayet.)

Aşağıdakilerden hangisi Hz. Muhammed'le ilgili bu ayetten çıkarılacak bir sonuçtur?

- A) Kur'an-ı Kerim'i açıklayıcıdır.
B) İnsanlığa bir rahmettir.
C) Güvenilir bir insandır.
D) Son peygamberdir.

13. Hz. Muhammed'in insanlara, hayvanlara, bitkilere, canlı-cansız tüm varlıklara karşı şefkatli davranması onun hangi özelliğini gösterir?

- A) Doğa sevgisini
B) Son peygamber oluşunu
C) Âlemlere rahmet oluşunu
D) Kur'an-ı Kerim'i tebliğle görevli oluşunu

14. Hz. Muhammed'in adı söylenildikten sonra, O'na saygı ve sevgiyi ifade etmek üzere aşağıdakilerden hangisi söylenir?

- A) Lailahe illallah
B) Elhamdü lillah
C) Muhammedün rasulullah
D) Sallallahü aleyhi ve sellem

15. “Ey Muhammed! De ki: Ben de ancak sizin gibi bir insanım. Ne var ki bana sizin ilahınız ancak bir tek ilahdır diye vahyolunuyor...” (Kehf suresi, 110. Ayet.)

Bu ayette peygamberimizin hangi özelliği vurgulanmaktadır?

- A) İnsani yönü
B) Örnek ahlakı
C) İnsanlara karşı hoşgörüsü
D) İnsanüstü özelliklere sahip olduğu

3. OTURUM

(114) DİN KÜL. AHL. BİL. – 4

16. “Ey iman edenler! Fasıkın biri size bir haber getirirse, bilmeyerek bir topluluğa zarar verip yaptığınıza pişman olmamak için, o haberin doğruluğunu araştırın.”
(Hucurat suresi, 6. Ayet.)

Bu ayet Kur’an’ın aşağıdaki temel amaçlarından hangisine kanıt oluşturur?

- A) Doğru davranış
B) Doğru inanç
C) Doğru bilgi
D) Doğru öğüt

17. Kur’an-ı Kerim’de kaç sure vardır?

- A) 99
B) 114
C) 4444
D) 6666

18. Kur’an-ı Kerim’i bir dilden başka bir dile çevirmeye ne ad verilir?

- A) Meal
B) Mushaf
C) Tefsir
D) Müfessir

19. Peygamberimizin söz, fiil ve takrirlerine ne ad verilir?

- A) Vacip
B) Sünnet
C) Müstehap
D) Farz

20. Kur’an-ı Kerim’in harflerinin düzgün çıkarılması ve kelimele-
rin doğru okunmasıyla ilgili ku-
rallar aşağıdakilerden hangisi
ile isimlendirilir?

- A) Hizb
B) Tecvid
C) Mukabele
D) Tadil-i Erkan

1. “Ey iman edenler! Kendi evinizden başka evlere, seslenip izin almadan, ev halkına selam vermeden girmeyiniz. Bu davranış sizin için daha hayırlıdır...”
(Nur suresi, 27. ayet.)

Bu ayette aşağıdaki hak ve özgürlüklerden hangisine vurgu yapılmıştır?

- A) Eğitim hakkı
B) İnanç özgürlüğü
C) Özel yaşamın gizliliği hakkı
D) Düşünce ve ifade özgürlüğü

2. Hz. Muhammed: “Sizden evvelkilerin mahvolmalarının sebebi şudur ki: içlerinden şerefli bir kimse hırsızlık yapınca onu cezasız bırakır, zayıf birisi çalınca ise kanunu tatbik eder, onu cezalandırırlardı. Allah’a yemin ederim ki, Muhammed’in kızı Fatıma da haksızlık etse, cezasız bırakmazdım.” (Hadis-i Şerif)

Hz. Muhammed’in dikkat çektiği husus aşağıdakilerden hangisidir?

- A) Hukukun üstünlüğü
B) İnanç özgürlüğü
C) Barış ve güven
D) Kul hakkı

3. “İlim ve hikmet, Müslümanın yitiğidir. Nerede bulursa onu alır.”

Peygamberimiz bu hadisinde aşağıdakilerden hangisinin önemini vurgulamıştır?

- A) Düşünce ve ifade özgürlüğünün
B) Eğitim ve öğretimin
C) İnanç özgürlüğünün
D) İbadet hakkının

4. Kişinin başkasına zarar vermeden düşündüğünü ve dilediğini yapabilmesi anlamına gelen kavram aşağıdakilerden hangisidir?

- A) Adalet
B) Hak
C) Özgürlük
D) Hukuk

5. “Allah’ın mescidlerinde onun adının anılmasını engelleyenler ve onların yıkılmasına uğraşan kimse-
lerden daha zalim kim vardır?...”
(Bakara suresi, 114. ayet.)

Bu ayet aşağıdaki hak ve özgürlüklerden hangisinin engellenmesini eleştirmektedir?

- A) Özel yaşamın gizliliği hakkı
B) Fikir hürriyeti
C) Eğitim hakkı
D) İbadet Hakkı

6. “...Kim bir cana kıymamış veya yeryüzünde bozgunculuk yapmamış olan bir kimseyi öldürürse, bütün insanları öldürmüş gibidir...”
(Maide suresi, 32. ayet.)

Bu ayet aşağıdakilerden hangisini korumaya yöneliktir?

- A) Yaşama hakkı
B) İnanç özgürlüğü
C) Özel yaşamın gizliliği hakkı
D) Düşünce ve ifade özgürlüğü

7. Aşağıdakilerden hangisi, madde bağımlılığı ve zararlı alışkanlıkların hak ve özgürlükleri kullanmaya engel olmasına örnek gösterilemez?

- A) Kumar bağımlılığı kimsenin okuma, bilgilenme, düşünme gibi faaliyetlerden uzak kalması
B) Uyuşturucu bağımlılığı kimsenin sağlığını kaybederek çalışma gücü ve özel yeteneklerini yitirmesi
C) Engelli bireyin duyarsız kimse-
lerin hoş olmayan davranışları-
na maruz kalması
D) Alkol kullanma alışkanlığı olan bireyin aklını kullanma yeteneğinin zayıflaması

8. Bir şeye körü körüne bağlanmak, aşağıdaki hangi kavram ile ifade edilmektedir?

- A) İstismar
B) Yozlaşmak
C) Fazilet
D) Taassup

3. OTURUM

9. Mustafa Kemal Atatürk, aşağıdakilerden hangisine karşıdır?

- A) Dinin millet için gerekli bir kurum olarak görülmesine
- B) Dinî inançların bireysel çıkarlar için kullanılmasına
- C) Vatandaşlara din ve inançlarının gerektirdiği gibi yaşama olanağı tanınmasına
- D) Bireylerin din alanında öğrenim görmelerine ve bilgilenmelerine

10. Peygamberimizin Medine’de mescidin yanında inşa ettirdiği, küçük odalardan oluşan, İslam’ı öğrenmek isteyenlerin yatılı ve gündüzlü olarak eğitim aldığı kurum aşağıdakilerden hangisidir?

- A) Suffe
- B) Cami
- C) Küttap
- D) Medrese

11. Tıp alanında yazılmış Kitab’üş Şifa ve El-Kanun fit-Tıp adlı eserleri bulunan dünyaca ünlü Müslüman bilim adamı kimdir?

- A) Ömer Hayyam
- B) İbn’ül Heysem
- C) İbn-i Rüşd
- D) İbn-i Sina

12. İslam medeniyetinde “Suffa” “Beytül-Hikme” ve “Darul-Kurra” gibi kurumların bulunması, İslam medeniyetinde aşağıdakilerden hangisine verilen önemi gösterir?

- A) İlim öğrenmeye
- B) Çevreyi korumaya
- C) Mimariyi desteklemeye
- D) Yardımlaşmayı sağlamaya

13. Aşağıdaki düşüncelerden hangisi İslam dininde kabul görmez?

- A) Aklını kullanmayanın doğru yolu kavrayamayacağı
- B) Kur’an-ı Kerim’in akla hitap ettiği ve akla aykırı bir şey içermediği
- C) Ayetler üzerinde akıl yürütmenin bireyin dinden uzaklaşmasına yol açacağı
- D) Allah’ın akıl sahiplerine, ilahi hakikatler üzerinde düşünüp kavrama sorumluluğu yüklediği

14. Aşağıdakilerden hangisi vahyin geliş şekillerinden biri değildir?

- A) Peygamberlerin kalbine doğrudan yerleştirilmesi
- B) Peygamberlere yazılı bir kitap halinde gönderilmesi
- C) Perde arkasından gelen vahyi peygamberin duyması
- D) Cebrail adlı meleğin peygamberlere vahiy getirmesi

15. Allah tarafından vahiy meleği aracılığıyla gönderilen, ibadet ve ahlak kuralları bütünü olarak tarif edilen kavram aşağıdakilerden hangisidir?

- A) Ahlak
- B) İnanç
- C) Din
- D) Nübüvvet

16. “Kişi, elinin emeğiyle kazandığından daha temiz bir kazanç elde etmemiştir.”

Bu hadis aşağıdaki hak ve özgürlüklerden hangisiyle ilişkilidir?

- A) Ekonomik hak
- B) Eğitim hakkı
- C) Sağlık hakkı
- D) Özel yaşamın gizliliği hakkı

17. Allah Teala’ın, peygamberlerine buyruklarını özel bir şekilde bildirmesine ne denir?

- A) Bilgi
- B) Suhuf
- C) İlham
- D) Vahiy

18. İslam dininde başkalarına haksızlık edip onları maddi ve manevi zarara uğratmak hangi kavramla ifade edilir?

- A) Allah hakkı
- B) Kul hakkı
- C) Kamu hakkı
- D) Komşu hakkı

19. Aşağıdakilerden hangisi İslam medeniyetinde faaliyet gösteren bir eğitim kurumu değildir?

- A) Medrese
- B) Küttap
- C) Beytül-Hikme
- D) Beytül-Mal

20. Aşağıdakilerden hangisi bilginin kaynaklarından biridir?

- A) Rüya
- B) İlham
- C) Duyu
- D) Yorum

(116) DİN KÜL. AHL. BİL. – 6

1. “Kaynaşmanız için size kendi cinsinizden eşler yaratıp aranızda sevgi ve merhamet oluşturması da onun varlığının delillerindedir...”
(Rum suresi, 21. Ayet)

Bu ayette vurgulanan husus aşağıdakilerden hangisidir?

- A) Ailenin kadın, erkek ve çocuklardan oluştuğu
- B) Ailenin oluşmasında muhabbetin önemi
- C) Allah’ın yarattıklarına merhamet etmesi
- D) Ailenin toplumu şekillendirdiği

2. Aşağıdakilerden hangisi İslam kültüründe “Sıla-i Rahim” olarak adlandırılır?

- A) Türbeleri ziyaret
- B) Kutsal yerleri ziyaret
- C) Kabristanları ziyaret
- D) Akraları ziyaret

3. OTURUM

3. Aşağıdaki hadislerden hangisi aile içi görev ve sorumluluklarla ilgilidir?

- A) "Hiçbir baba, çocuğuna güzel terbiyeden daha üstün bir başışta bulunmamıştır."
B) "Allah'a ve ahiret gününe inanan kişi misafirine ikram etsin..."
C) "Küçüklerine merhamet etmeyen, büyüklerine saygı göstermeyen bizden değildir."
D) "İyiliğin en mükemmeli, bir adamın baba dostunu, hısrım ve akrabalarını gözetmesidir."

4. Aşağıdaki ayet ve hadislerden hangisi aile kurumunu koruma-ya yöneliktir?

- A) "Çocuklarınıza hoşça davranın, onları güzel terbiye edin."
(Hadisi Şerif)
B) "Küçüklerine merhamet etmeyen, büyüklerine saygı göstermeyen bizden değildir."
(Hadisi Şerif)
C) "Rabbin sadece kendisine kulluk etmenizi, ... kesin bir şekilde emretti..."
(İsra suresi, 23. Ayet)
D) "Zinaya yaklaşmayın. Zira o bir hayasızlıktır ve çok kötü bir yoldur."
(İsra suresi, 32. Ayet)

5. "Sizin en hayırlınız, kadınlara karşı en iyi davrananınızdır."
(Hadisi Şerif)

Bu hadiste vurgulanan asıl düşünce aşağıdakilerden hangisidir?

- A) Evliliğin önemi
B) Kadınların değeri
C) Kadın-erkek eşitliği
D) Kadının rolü

6. Aşağıdakilerden hangisi Diyanet İşleri Başkanlığının görevleri arasında yer almaz?

- A) Toplumda birlik ve beraberliği pekiştirici çalışmalar yapmak
B) Bireylerin manevi ve ahlaki değerlere bağlılığını artırmak
C) Örf ve adetlerin uygulanıp yaygınlaşmasını sağlamak
D) İslam dinini en doğru şekilde öğretmek ve tanıtmak

7. Aşağıdakilerden hangisi İmam-Hatip'in görevleri arasında yer almaz?

- A) Beş vakit namazı kıldırarak
B) İlçede din işlerini yürütmek
C) Cuma ve bayram namazlarını kıldırarak
D) İsteyenlere Kur'an-ı Kerim öğretmek

8. Aşağıdakilerden hangisi Osmanlı İmparatorluğu döneminde din işleri ile meşgul olan kişidir?

- A) Şeyhülislam B) Kazasker
C) Sadrazam D) Veziriazam

9. Diyanet İşleri Başkanlığı ilk Türkçe tefsiri yazma görevini aşağıdakilerden hangisine vermiştir?

- A) Börekçizade Mehmet Rıfat'a
B) Konyalı Mehmet Vehbi'ye
C) Elmalılı Muhammed Hamdi Yazır'a
D) Ahmet Hamdi Akseki'ye

10. Aşağıdakilerden hangisi Diyanet İşleri Başkanlığında görev yapan din hizmetleri personelinin biri değildir?

- A) Vaiz
B) Müftü
C) Kur'an Kursu öğreticisi
D) Din Kültürü ve Ahlak Bilgisi öğretmeni

11. "Tatlı dilli olanların dostları her gün biraz daha artar."

Hz. Ali bu sözle aşağıdakilerden hangisine işaret etmiştir?

- A) Sözde güzelliğe
B) Dostluğun önemine
C) Davranışta güzelliğe
D) Az ve öz konuşmanın önemine

12. Kişinin evini, elbisesini ve kullandığı eşyasını güzelleştirmesi onun aşağıdakilerden hangisine önem verdiğini gösterir?

- A) Hayatı kolaylaştırmaya
B) Ahiret hayatına
C) Giyinmeye
D) Estetiğe

13. Ayetlerin, hadislerin veya dini yazıların güzel ve estetik yazılması sanatıyla uğraşan sanatkârlara verilen isim aşağıdakilerden hangisidir?

- A) Mücellid B) Hattat
C) Nakkaş D) Neyzen

14. Aşağıdakilerden hangisi dinin etkisiyle ortaya çıkan mimari eserlerden değildir?

- A) Medrese B) Şadırvan
C) Malikâne D) Dar'ül-Aceze

15. Duygu ve düşüncelerin belli bir sistem, ahenk ve ritim içerisinde, seslerle ifade edilmesinde, seslerle ifade edilmesinde tanımlanan kavram aşağıdakilerden hangisidir?

- A) Musiki B) Minyatür
C) Hüsnü hat D) Menkıbe

16. Divan edebiyatında Hz. Muhammed'i öven nazım eserlerinin genel adı aşağıdakilerden hangisidir?

- A) Kıssa B) Münacaat
C) Naat D) Menkıbe

17. İslam kültüründe aşağıdaki sanat dallarından hangisi daha az gelişmiştir?

- A) Şiir B) Resim
C) Edebiyat D) Musiki

18. "Güneş kendi için belirlenen yörüngede akar. İşte bu aziz ve alim olan Allah'ın takdirdir. Ay için de bir takım menziller tayin ettik. Nihayet o, eğri hurma dalı gibi olur da geri döner. Ne güneş aya yetişebilir ne de gece gündüzü geçebilir. Her biri bir yörüngede yüzerler."
(Yasin suresi, 38 – 40. ayetler.)

Bu ayetlerde aşağıdaki konulardan hangisine değinilmemiştir?

- A) Gök cisimlerinin zamanı hesaplamada ölçü olduğuna
B) Güneş ve ayın uyumlu hareketine
C) Evrende bir düzenin varlığına
D) Evrenin başlangıç ve sonuna

3. OTURUM

19. Bulunduğu il ve ilçelerde din hizmetlerinden birinci derece sorumlu kişi kimdir?

- A) Müftü
- B) Vaiz
- C) Baş İmam
- D) Diyanet İşleri Başkanı

20. Aşağıdakilerden hangisi Osmanlı döneminde yapılan cami mimarisinin örnekleri arasında sayılamaz?

- A) Sultan Ahmet Camii
- B) Süleymaniye Camii
- C) Kocatepe Camii
- D) Selimiye Camii

(122) FELSEFE – 2

1. Aşağıdakilerden hangisi ahlak felsefesinin temel kavramlarından dandır?

- A) Meşruiyet
- B) Kutsal
- C) Erdem
- D) Güzel

2. Aşağıdakilerden hangisi ahlak felsefesinin temel sorularından dandır?

- A) Meşruiyetin ölçütü nedir?
- B) Sivil toplum ne anlama gelir?
- C) Tanrı'nın varlığı kanıtlanabilir mi?
- D) İnsan ahlaki eylemde bulunurken özgür müdür?

3. Aşağıdakilerden hangisi ahlak yargılarının özelliklerinden değildir?

- A) Estetik beğeni ile ilgili yargılardır.
- B) Yaptırım gücüne sahiptir.
- C) Kişiden kişiye değişebilir.
- D) Kural koyucudur.

4. I. Kant'ın ahlaki eylem konusundaki görüşü aşağıdakilerden hangisidir?

- A) Bir eylemin iyi ideasına uygun olup olmadığına bakarak karar verebiliriz.
- B) Bir eylem, ödev duygusuyla yapılmış ise ahlaki eylemdir.
- C) Bir eylem çıkara dayanmalıdır.
- D) Ahlaki eylemin amacı mutluluktur.

5. "İnsanın var oluşu, onun özünden önce gelir. Buna göre insan önce vardır, sonra şöyle ya da böyle olur, çünkü özünü kendi oluşturabilme özelliğine sahiptir."

Bu görüşüyle Jean Paul Sartre hangi felsefi yaklaşımın temsilcilerindendir?

- A) Varoluşçuluk
- B) Faydacılık
- C) Sezgicilik
- D) Hazcılık

6. I- Mevlana
II- Yunus Emre
III- Hacı Bektaş Veli

Yukarıda verilenlerden hangileri, evrensel ahlak yasasını tasavvuf düşüncesiyle temellendirmiştir?

- A) I ve II
- B) I ve III
- C) II ve III
- D) I, II ve III

7. "Kamuda ya da kamu emrinde çalışan ve hiyerarşik bir düzen içinde örgütlenmiş memurlar topluluğudur."

Tanımı verilen kavram hangisidir?

- A) Sivil toplum
- B) Bürokrasi
- C) Meşruiyet
- D) Hukuk

8. Yönetimin geçerlilik ölçütleri, din – devlet ilişkileri, hukuk sistemi, insan hakları, devlet ile birey arasındaki ilişkileri ele alan felsefe dalı hangisidir?

- A) Siyaset felsefesi
- B) Ahlak felsefesi
- C) Varlık felsefesi
- D) Din felsefesi

9. Max Weber'e göre, demokratik otoritenin kaynağı aşağıdakilerden hangisidir?

- A) Karizmatik lider
- B) Toplumdaki gelenekler
- C) Yazılı hukuk kuralları
- D) Toplumdaki inançlar

10. Düşünce ve ekonomik alanda serbest girişim özgürlüğü başta olmak üzere tüm etkinlik alanlarında özgürlüğü temel ilke olarak kabul eden yaklaşım hangisidir?

- A) Sosyalizm
- B) Septisizm
- C) Liberalizm
- D) Empirizm

11. Protagoras'a göre "her şeyin ölçüsü insandır. Her şeyin ölçüsü insan olduğuna göre bütün insanların kabul edebileceği bir kural, sistem olamaz."

Buna göre, Protagoras'ın ideal bir düzen konusunda aşağıdakilerden hangisini savunduğu söylenebilir?

- A) İdeal bir toplum düzeni demokrasi ile gerçekleşir.
- B) İdeal bir toplum düzeni yoktur.
- C) İdeal toplum düzeni yasalarla sağlanabilir.
- D) İdeal toplum düzeni toplumun değerlerine göre kurulmalıdır.

12. Aşağıdakilerden hangisi, gelecekte toplumu bekleyen tehlikelere dikkat çekmek isteyen korku ütopyalarına örnek olarak gösterilir?

- A) Aldous Huxley'in "Yeni Dünya"sı
- B) Farabi'nin "Erdemli Toplum"u
- C) Campanella'nın "Güneş Ülkesi"
- D) Platon'un "İdeal Devlet"i

13. 11. Yüzyılda yaşamış, birey, devlet ve yaşamı konu alan "Kutadgu Bilig (mutluluk veren kitap)" adlı eseriyle ün kazanmış Türk düşünürü hangisidir?

- A) Farabi
- B) Platon
- C) İbn-i Sina
- D) Yusuf Has Hacip

3. OTURUM

14. Sanat eseri sanatçının doğayı basitçe taklit etmesi değil, onu kendi yeteneği ve hayal gücünü de kullanarak oluşturmasıdır.

Yukarıda açıklaması verilen sanat anlayışı hangisidir?

- A) Taklit olarak sanat
- B) Yaratma olarak sanat
- C) Yansıtma olarak sanat
- D) Oyun olarak sanat

15. Estetik yargılar ile ilgili olarak verilen aşağıdaki ifadelerden hangisi **yanlıştır**?

- A) Estetik yargılar kişinin duygularına bağlıdır ve tamamen özeldir.
- B) Estetik yargılar zaman içinde değişikliğe uğrayabilirler.
- C) Estetik yargılar bireylerin nasıl davranması gerektiğini açıklayan yargılardır.
- D) Bir toplulukta kişiler farklı estetik yargılara sahip olabilirler.

16. Aşağıdakilerden hangisi estetik bir yargıdır?

- A) İnsan düşünen bir canlıdır.
- B) Adalet mülkün temelidir.
- C) Utanmadıktan sonra dilediğini yapabilirsin.
- D) Mehmet Akif'in bütün şiirleri güzeldir.

17. Aşağıdakilerden hangisi din felsefesinin temel kavramlarından **değildir**?

- A) Vahiy
- B) Kutsal
- C) Özgürlük
- D) İman

18. Var olan her şeyin bir yaratıcısı olduğunu, bu yaratıcının evrene müdahale ettiğini kabul eden düşünce hangisiyle ifade edilir?

- A) Teizm
- B) Agnostisizm
- C) Ateizm
- D) Panteizm

19. Din felsefesi ile ilgili aşağıdaki yargılardan hangisi **yanlıştır**?

- A) Dine nesnel olarak yaklaşır.
- B) İnançın yapısını eleştirel olarak inceler.
- C) Bütün dinlere eşit uzaklıktadır.
- D) Belirli bir dini sorgulama yapmadan savunur.

20. I- Ateizm
II- Deizm
III- Panteizm

Yukarıda verilenlerden hangileri Tanrı'nın varlığını kabul eden görüşlerdendir?

- A) I ve II
- B) II ve III
- C) I ve III
- D) I, II ve III

(124) SEÇMELİ FELSEFE – 2

1. • İnsan eylemlerini ahlaki bakımdan denetleyen bir çeşit içsel mahkemedir.
• Ahlaki açıdan uyulması zorunlu ya da gerekli olan genel geçer kurallardır.

Yukarıda tanımları verilen kavramlar hangisinde birlikte yer almıştır?

- A) Vicdan – Özgürlük
- B) Vicdan – Ahlak yasası
- C) Sorumluluk – Özgürlük
- D) Erdem– Ahlaki eylem

2. İnsanın kararlarında ve eylemlerinde özgür olduğunu, iyi, kötü, değerli ve değersiz arasındaki seçimi kendi iradesiyle özgürce yaptığını savunan yaklaşım aşağıdakilerden hangisidir?

- A) İndeterminist yaklaşım
- B) Hedonist yaklaşım
- C) Determinist yaklaşım
- D) Sezgisel yaklaşım

3. I. Eylem alanıyla ilgili yargılardır.
II. Yaptırım gücü vardır.
III. Akla değil duygulara dayanır.

Yukarıda verilenlerden hangisi ya da hangileri ahlak yargılarının özelliklerinden **değildir?**

- A) Yalnız I
- B) Yalnız II
- C) Yalnız III
- D) I ve III

4. Sokrates'e göre, ahlaki eylemin amacı nedir?

- A) Haz
- B) Fayda
- C) Ödev
- D) Mutluluk

5. I. Bencilik
II. Anarşizm
III. Sezgisicilik

Yukarıda verilenlerden hangisi ya da hangileri evrensel ahlak yasasının varlığını **reddeden yaklaşımlardandır?**

- A) Yalnız I
- B) Yalnız III
- C) I ve II
- D) II ve III

6. İnsanın sezgi ve aşk yoluyla Tanrı'ya ulaşabileceğini, onunla bütünleşebileceğini savunan öğretiyi aşağıdakilerden hangisidir?

- A) Tasavvuf
- B) Akılcılık
- C) Faydacılık
- D) Hazcılık

7. • İktidar veya devlet tarafından, bireyler arası ilişkileri düzenlemek amacıyla konulan kurallardır.
• Devletin iktidar gücünü hiçbir baskı olmadan kullanabilmesidir.
• Bireyin başka birey veya kurumlardan isteyebileceği şeylerdir.

Yukarıda hangi kavramın tanımı **verilmemiştir?**

- A) Egemenlik
- B) Devlet
- C) Yasa
- D) Hak

8. Max Weber'in, iktidarın kaynağını liderin sahip olduğuna inanılan olağanüstü niteliklerine bağladığı otorite türü aşağıdakilerden hangisidir?

- A) Hukuksal otorite
- B) Karizmatik otorite
- C) Geleneksel otorite
- D) Demokratik otorite

9. Aşağıdakilerden hangisi ideal bir düzenin olabileceğini reddeden görüşlerden biri olan "nihilizm" görüşünün temsilcilerindendir?

- A) Platon
- B) Farabi
- C) Adam Smith
- D) Friedrich Nietzsche

3. OTURUM

10. Demokratik otoritenin kaynağı aşağıdakilerden hangisidir?

- A) Gelenekler
- B) Karizmatik liderler
- C) Yerleşik inançlar
- D) Yazılı hukuk kuralları

11. Zihinde tasarlanmış, gerçekleşmesi çok fazla mümkün olmayan düşsel veya ideal bir toplum düzenini ifade eden kavram aşağıdakilerden hangisidir?

- A) Bürokrasi
- B) Karmaşa
- C) Ütopya
- D) Birey

12. Liberalizmi savunan düşünürlere göre, ideal düzenin var olması aşağıdakilerden hangisine bağlıdır?

- A) Toplumun hukuk kurallarından daha çok örf ve geleneklere göre yönetilmesine
- B) Toplumda birey özgürlüklerinin tam olarak yerine getirilmesine
- C) İnsanlar arasında tam eşitliğin gerçekleşmesine
- D) Üretim araçlarının toplumun ortak mülkiyeti olmasına

13. Farabi'nin, bilgili kişiler tarafından yönetilen, insanların mutluluğunu sağlayacak, evrensel barış ve sevgiden söz ettiği eseri hangisidir?

- A) Erdemli Toplum
- B) Güneş ülkesi
- C) Yeni dünya
- D) Ütopya

14. Sanatçı doğada bulunan varlıkları algılayıp eserine yansıtır. Sanat eseri aslını en güzel biçimde yansıttığı müddetçe güzeldir.

Yukarıda açıklaması verilen sanat anlayışı hangisidir?

- A) Yaratma olarak sanat
- B) Taklit olarak sanat
- C) Sembol olarak sanat
- D) Oyun olarak sanat

15. Estetik yargılar ile ilgili olarak verilen aşağıdaki ifadelerden hangisi yanlıştır?

- A) Estetik yargılar kişiden kişiye değişebilir.
- B) Estetik yargılar zaman içinde değişikliğe uğrayabilirler.
- C) Estetik yargılar objektiftir.
- D) Bir toplulukta gençlerle yaşlılar farklı estetik yargılara sahip olabilirler.

16. Aşağıdakilerden hangisi estetiğin incelediği kavramlardan biri değildir?

- A) Güzel
- B) Sanat
- C) Yüce
- D) Erdem

17. Aşağıdakilerden hangisi ortak estetik yargıların varlığını kabul eden düşünürlerdendir?

- A) Kant
- B) Croce
- C) Gorgias
- D) Protagoras

18. Aşağıdakilerden hangisi din felsefesinin temel sorularından değildir?

- A) Tanrı için midir yoksa aşkın midir?
- B) Tanrı vahiyle insana bilgi ve buyrukları gönderebilir mi?
- C) Evren yaratılmış mıdır yoksa öncesiz ve sonrasız bir oluşum mudur?
- D) İnsan ahlaki eylemde bulunurken özgür müdür?

19. Tanrı ile evreni bir ve aynı şey olarak gören düşünce biçimi hangi kavramla ifade edilir?

- A) Deizm
- B) Teizm
- C) Panteizm
- D) Agnostisizm

20. Aşağıdakilerden hangisi din felsefesinin temel kavramlarından değildir?

- A) Devlet
- B) Vahiy
- C) Kutsal
- D) Yüce

(133) TARİH – 3

1. Aşağıdaki beyliklerden hangisinin alınmasıyla Osmanlı Devleti Rumeli'ye geçiş için önemli bir adım atmıştır?

- A) Aydınoğulları
- B) Karesioğulları
- C) Saruhanoğulları
- D) Karamanoğulları

2. Aşağıdakilerden hangisi Ertuğrul Gazi idaresinde Söğüt ve Domaniç'e yerleşen Oğuz boyudur?

- A) Avşar boyu
- B) Kayı boyu
- C) Bayat boyu
- D) Kızık boyu

3. Aşağıdakilerden hangisi XIV. yüzyıl başlarında Yakın Doğu ve Avrupa'daki mevcut devletlerden biri değildir?

- A) Bizans İmparatorluğu
- B) Emeviler
- C) Memlük Devleti
- D) Türkiye Selçuklu Devleti

4. Bizans'a gelebilecek yardımları engellemek amacıyla "Anadolu Hisari'ni" yaptıran Osmanlı padişahı, aşağıdakilerden hangisidir?

- A) Yıldırım Bayezit
- B) I. Murat
- C) Mehmet Çelebi
- D) II. Murat

5. Aşağıdakilerden hangisi Ankara Savaşı'nın sonuçlarından biri değildir?

- A) Avrupa yönünde ilerleme ve fetihler durdu.
- B) Anadolu Türk siyasi birliği bozuldu.
- C) Anadolu'da sosyal ve ekonomik düzen bozuldu.
- D) Timur İmparatorluğu sona erdi.

3. OTURUM

6. Moğol İmparatorluğu'nun parçalanmasından sonra Cengiz Han'ın torunu Batu Han tarafından Karadeniz ve Hazar denizi kuzeyinde kurulan devlet, aşağıdakilerden hangisidir?

- A) Memlük Devleti
- B) Eyyübler
- C) Altın Orda Devleti
- D) Bizans

7. Osmanlı Devleti'nin Balkanlara kesin olarak yerleştiği savaş aşağıdakilerden hangisidir?

- A) II. Kosova Savaşı
- B) Sırpsındığı Savaşı
- C) Niğbolu Savaşı
- D) Ankara Savaşı

8. I. Murat "Ülke hanedanının ortak malıdır." anlayışı yerine "Ülke padişah ve oğullarındır." anlayışını getirmiştir.

Bu uygulamanın temel amacı aşağıdakilerden hangisidir?

- A) Padişahın yetkilerini sınırlandırmak
- B) Anadolu siyasi birliğini kurmak
- C) Taht kavgalarını önlemek
- D) Devletin sınırlarını korumak

9. Osmanlı Devleti'nde gelirleri kale muhafızlarına ve tersane giderlerine ayrılan topraklar aşağıdakilerden hangisidir?

- A) Paşmaklık
- B) Ocaklık
- C) Malikane
- D) Yurtluk

10. Yeniçeri Ocağı'nı kuran Osmanlı padişahı aşağıdakilerden hangisidir?

- A) Osman Bey
- B) II. Mehmet
- C) I. Bayezit
- D) I. Murat

11. Osmanlı Devleti'nin ünlü sanatçılarından biri olan Matrakçı Nasuh aşağıdaki sanat dallarından hangisinde yaptığı çalışmalarla tanınmıştır?

- A) Müzik
- B) Ciltçilik
- C) Minyatür
- D) Mimari

12. Aşağıdakilerden hangisi Osmanlı Devleti'nde en küçük yönetim birimidir?

- A) Köy
- B) Eyalet
- C) Sancak
- D) Kaza

13. Aşağıdaki gelişmelerden hangisi Avrupa ekonomisini güçlendirirken, Osmanlı ekonomisini olumsuz etkilemiştir?

- A) Rönesans
- B) Reform
- C) Fransız İhtilali
- D) Coğrafi Keşifler

14. Safevi tehlikesini önemsememesi üzerine babası II. Bayezit'i tahtan indirerek 1512 yılında tahta çıkan Osmanlı padişahı, aşağıdakilerden hangisidir?

- A) II. Murat
- B) Yıldırım Bayezit
- C) Yavuz Sultan Selim
- D) II. Mahmut

15. Aşağıdakilerden hangisi Osmanlıda tarımla uğraşan köylünün yerine getirmesi gereken yükümlülüklerden biri değildir?

- A) Sebepsiz olarak toprağı terk etmemek
- B) Devlete asker yetiştirmek
- C) Toprağı üst üste üç yıl boş bırakmamak
- D) Ürettiği ürünün vergisini ödemek

16. Aşağıdakilerden hangisi Osmanlı Devleti'nde ilmiye sınıfının divandaki temsilcilerinden biridir?

- A) Nişancı
- B) Veziriazam
- C) Kaptanıderya
- D) Şeyhülislam

17. Aşağıdakilerden hangisi İstanbul'un fethinin sonuçlarından biri değildir?

- A) Bizans, Doğu ve Batı olarak ikiye ayrıldı.
- B) Orta Çağ sona erdi, Yeni Çağ başladı.
- C) II. Mehmet "Fatih" unvanı aldı.
- D) İstanbul, Osmanlı Devleti'nin başkenti oldu.

18. Osmanlı ordusunda, kale kuşatmalarında tünel kazarak ve fitil döşeyerek düşman surları ve kale duvarlarını yıkan askeri teşkilat, aşağıdakilerden hangisidir?

- A) Humbaracılar
- B) Lağımçıları
- C) Deliler
- D) Sakalar

19. Osmanlı Devleti'nin Akdeniz ve Kızıldeniz'i birleştirerek, Baharat Yolu'nu kontrol etmek amacıyla hazırladığı proje, aşağıdakilerden hangisidir?

- A) Süveyş Kanal Projesi
- B) Don-Volga Kanal Projesi
- C) Marmara-Karadeniz Kanal Projesi
- D) Panama Kanal Projesi

20. Osmanlı Devleti'nin batıda toprak kazandığı son antlaşma aşağıdakilerden hangisidir?

- A) Vasvar
- B) İstanbul
- C) Bucaş
- D) Sevr

3. OTURUM

(134) TARİH – 4

1. Osmanlı toprağı olan Belgrad, Pasarofça Antlaşması ile aşağıdaki devletlerden hangisine geçmiştir?

- A) İngiltere B) Avusturya
C) Rusya D) Fransa

2. Prut Antlaşması'nın hangi maddesi Karlofça Antlaşması'yla kaybedilen toprakların geri alınabileceğı umudunu güçlendirmiştir?

- A) İsveç kralı ülkesine serbestçe dönebilecek
B) Rusya Lehistan'ın iç işlerine karışmayacak
C) Azak kalesi Osmanlılara geri verilecek
D) Rusya İstanbul'da elçi bulunduramayacak

3. Nizamıcedit adıyla yeni bir ordu kuran Osmanlı padişahı aşağıdakilerden hangisidir?

- A) Osman Bey B) Yıldırım Bayezit
C) I. Ahmet D) III. Selim

4. Aşağıdakilerden hangisi Sanayi İnkılabı ile ortaya çıkan sonuçlardan biri değildir?

- A) İşçi sınıfı ortaya çıktı.
B) Avrupa ekonomik açıdan zayıfladı.
C) Köylere şehirler göç başladı.
D) Kapitalizm, sosyalizm gibi düşünceler ortaya çıktı.

5. Aşağıdakilerden hangisi Fransız İhtilali'nin sonuçlarından biri değildir?

- A) Soylular ve rahipler imtiyazlarını kaybettiler.
B) Mutlak krallıkların yıkılabileceğı görüldü.
C) Din ve mezhep savaşları sona erdi.
D) Yeni Çağ kapanıp Yakın Çağ başladı.

6. Tanzimat Fermanı'nın ilanından I. Meşrutiyet'e kadar geçen döneme ne ad verilir?

- A) Gerileme Dönemi
B) Fetret Dönemi
C) Lale Devri
D) Tanzimat Dönemi

7. 19. yüzyılda Osmanlı Devleti'ne karşı Mısır'da isyan eden Osmanlı valisi, aşağıdakilerden hangisidir?

- A) Mehmet Ali Paşa
B) Cem Sultan
C) Mithat Paşa
D) Gazi Osman Paşa

8. Osmanlı Devleti'nde Türkler tarafından çıkarılan ilk özel gazete aşağıdakilerden hangisidir?

- A) Tercümaniahval
B) Muhbir
C) Tasviriefkar
D) Vekayıtıbbiye

9. Osmanlı Devleti sınırları içinde birçok azınlık okulları vardı. Aşağıdakilerden hangisi Osmanlı'da azınlık okulu bulunan milletlerden biri değildir?

- A) Rum B) Portekiz
C) Ermeni D) Fransız

10. 18. yüzyılda Osmanlı Devleti, Avrupa ile olan diplomatik ilişkilerini geliştirmek için aşağıdakilerden hangisini yapmıştır?

- A) Avrupa'ya öğrenci gönderilmiştir.
B) Avrupa'ya askerî sefer düzenlenmiştir.
C) Avrupa'dan borç para alınmıştır.
D) Avrupa'da elçilikler açılmıştır.

11. İttifak Devletleri'nin I. Dünya Savaşı'nı kaybetmesinde aşağıdaki gelişmelerden hangisi etkili olmuştur?

- A) Osmanlı Devleti'nin savaşa girmesi
B) ABD'nin savaşa katılması
C) Bulgaristan'ın savaştan çekilmesi
D) Rusya'nın savaştan çekilmesi

12. Osmanlı Devleti'nde 18. yüzyılda yapılan ıslahatlar aşağıdaki alanlardan hangisinde değişikliğe neden olmamıştır?

- A) Askeri B) Dini
C) Eğitim D) Sosyal Hayat

13. Aşağıdakilerden hangisi Osmanlı sanayisini olumsuz etkilemiştir?

- A) Reform
B) Rönesans
C) Tanzimat Fermanı
D) Sanayi İnkılabı

14. Trablusgarp Savaşı'nın çıkmasında aşağıdaki unsurlardan hangisi etkili olmuştur?

- A) Sömürgecilik
B) Milliyetçilik
C) Özgürlük
D) Turancılık

15. Aşağıdakilerden hangisi II. Mahmut döneminde eğitim alanında yapılan ıslahatlardan biridir?

- A) Divanıhümayunun kaldırılması
B) Memurlara maaş bağlanması
C) İlköğretimin zorunlu hâle getirilmesi
D) Köy ve mahallelerde muhtarlıkların oluşturulması

3. OTURUM

(142) T.C. İNK. TAR. ATA. – 2

16. Almanya, Osmanlı Devleti'ni aşağıdaki hangi özelliğinden dolayı I. Dünya Savaşı'nda kendi yanında savaşa sokmak istemiştir?

- A) Siyasi yapısı
- B) Askerî teknolojisi
- C) Jeopolitik konumu
- D) Ekonomik zenginliği

17. Osmanlıda dağılmayı önlemek amacıyla, Türkleri millî bir duygu ile birleştirerek Osmanlı bayrağı altında kuvvetli bir unsur olarak yeniden dünya devletleri arasına sokmayı düşünen fikir akımı, aşağıdakilerden hangisidir?

- A) Türkçülük
- B) İslamcılık
- C) Osmanlıcılık
- D) Batıcılık

18. Osmanlı Devleti'nin I. Dünya Savaşı'nda İngiliz ilerleyişini durdurmak, İslamiyet'in kutsal şehirleri Mekke ve Medine'yi korumak için savaştığı cephe, aşağıdakilerden hangisidir?

- A) Çanakkale
- B) Irak
- C) Suriye ve Filistin
- D) Hicaz ve Yemen

19. Osmanlı Devleti'nde yaşayan azınlıkların isyan etmelerinde aşağıdaki gelişmelerden hangisinin yaydığı düşünceler daha çok etkili olmuştur?

- A) Rönesans
- B) Reform
- C) Fransız İhtilali
- D) Sanayi İnkılabı

20. Aşağıda verilen savaşlardan hangisinde Osmanlı Devleti'nin toprak kaybettiği söylenemez?

- A) Trablusgarp Savaşı
- B) I. Balkan Savaşı
- C) II. Balkan Savaşı
- D) I. Dünya Savaşı

1. Cumhuriyetin ilanından sonra ilk meclis başkanı aşağıdakilerden hangisi olmuştur?

- A) İsmet İnönü
- B) Fethi Okyar
- C) Rauf Orbay
- D) Refet Bele

2. Aşağıdakilerden hangisi 3 Mart 1924'te yapılan inkılaplardan biri değildir?

- A) Halifeliğin kaldırılması
- B) Tevhid-i Tedrisat Kanunu'nun çıkarılması
- C) Erkân-ı Harbiye-i Umumiye Vekâletinin kaldırılması
- D) Türk Medeni Kanunu'nun kabul edilmesi

3. Terakkiperver Cumhuriyet Fırkasının kapatılmasında aşağıdakilerden hangisi etkili olmuştur?

- A) Şeyh Said İsyanı
- B) Menemen Olayı
- C) 31 Mart Olayı
- D) Atatürk'e suikast girişimi

4. Mustafa Kemal Paşa'nın isteği üzerine Ali Fethi Okyar'ın kurduğu parti, aşağıdakilerden hangisidir?

- A) Cumhuriyet Halk Fırkası
- B) Terakkiperver Cumhuriyet Fırkası
- C) Serbest Cumhuriyet Fırkası
- D) Millî Kalkınma Partisi

5. Türkiye'de sosyal ve ekonomik alanda kadın-erkek eşitliğini sağlamış olan kanun, aşağıdakilerden hangisidir?

- A) Soyadı Kanunu
- B) Medeni Kanun
- C) Kabotaj Kanunu
- D) Teşvik-i Sanayi Kanunu

6. Tevhid-i Tedrisat Kanunu aşağıdaki alanlardan hangisiyle ilgilidir?

- A) Eğitim
- B) Sanat
- C) Ekonomi
- D) Ordu

7. Ülkemizde okur-yazar oranının artması aşağıdakilerden hangisinin bir sonucudur?

- A) Kılık kıyafet değişikliğinin
- B) Soyadı Kanunu'nun çıkarılmasının
- C) Saat ve takvimde değişikliğin
- D) Harf inkılabının kabulünün

8. Aşağıdakilerden hangisi toplumsal yaşayışı düzenlemek amacıyla yapılan inkılaplardan değildir?

- A) Tekke ve zaviyelerin kapatılması
- B) Medreselerin kaldırılması
- C) Kıyafette değişiklik yapılması
- D) Soyadı Kanunu'nun kabulü

9. Türk kadını milletvekili seçme ve seçilme hakkına hangi yıl sahip olmuştur?

- A) 1934
- B) 1933
- C) 1932
- D) 1930

10. Yeni Türk Devleti'nin ekonomik hedeflerinin belirlendiği ilk ekonomi kongresi aşağıdaki illerin hangisinde toplanmıştır?

- A) Sivas
- B) Ankara
- C) İzmir
- D) İstanbul

11. Aşağıdakilerden hangisi tarımı geliştirmek için yapılmıştır?

- A) Kabotaj Kanunu'nun çıkarılması
- B) Tekke ve zaviyelerin kapatılması
- C) Etibank'ın açılması
- D) Aşar vergisinin kaldırılması

3. OTURUM

12. Türk karasularında yalnızca Türk gemilerine yük ve yolcu taşıma hakkını tanıyan kanun, aşağıdakilerden hangisidir?

- A) Türk Medeni Kanunu
- B) Kabotaj Kanunu
- C) Teşvik-i Sanayi Kanunu
- D) Soyadı Kanunu

13. Mahmut Şevket Paşa, Türk ordusunu oluşturan aşağıdaki kuvvetlerden hangisinin temeli ni atmıştır?

- A) Hava Kuvvetleri
- B) Kara Kuvvetleri
- C) Deniz Kuvvetleri
- D) Jandarma Kuvvetleri

14. Sadabat Paktı'nın imzalanmasında aşağıdaki devletlerden hangisinin oluşturduğu tehdit etkili olmuştur?

- A) İtalya
- B) Fransa
- C) Rusya
- D) İngiltere

15. Atatürk "Kırk asırlık Türk yurdu ecnebi elinde kalmaz." sözünü aşağıdaki yerlerden hangisi için söylemiştir?

- A) Musul
- B) Batum
- C) Hatay
- D) Kars

16. Eğitilmiş ve teknik bilgilerle donatılmış, kültürlü insanların oluşturduğu güçtür.

Yukarıda tanımı verilmiş olan millî güç unsuru, aşağıdakilerden hangisidir?

- A) Siyasi güç
- B) Askerî güç
- C) Ekonomik güç
- D) Sosyokültürel güç

17. Türk ekonomisinin geliştirilmesinde uygulanmış olan Atatürk ilkesi aşağıdakilerden hangisidir?

- A) Cumhuriyetçilik
- B) Devletçilik
- C) Laiklik
- D) Halkçılık

18. Atatürk'ün naaşı hangi tarihte Anıtkabir'e konulmuştur?

- A) 10 Kasım 1953
- B) 20 Ekim 1945
- C) 10 Kasım 1940
- D) 10 Kasım 1938

19. Aşağıdakilerden hangisi Mihver Devletlerden değildir?

- A) Fransa
- B) İtalya
- C) Almanya
- D) Japonya

20. Türkiye'nin Kore Savaşı'na katılması aşağıdaki uluslararası kuruluşlardan hangisine üye olmasında etkili olmuştur?

- A) Birleşmiş Milletler Teşkilatı
- B) Batı Avrupa Birliği
- C) Kuzey Atlantik Paktı
- D) Kellogg Paktı

(153) COĞRAFYA – 3

1. Aşağıdakilerden hangisi levha hareketleri sonucu oluşmuştur?

- A) Kıvrım dağlar
- B) Peri bacaları
- C) Polye ovası
- D) Falez

2. Aşağıdakilerden hangisi sıcak su kaynaklarının kullanım alanlarından biri değildir?

- A) Tarımsal sulama
- B) Termal turizm
- C) Kültür balıkçılığı
- D) Seraların ısıtılması

3. Aşağıdakilerden hangisi volkan tufunun özellikleri arasında gösterilemez?

- A) İnce boyutlu malzemelerden oluşur.
- B) Genellikle açık renktedir.
- C) Aşınmaya karşı dirençsizdirler.
- D) Yerin derinliklerinde bulunurlar.

4. Bir ülkede aşağıdaki kaynak türlerinden hangisinin yaygın olarak görülmesi, o ülkenin depremelliği hakkında bilgi verir?

- A) Gayzer kaynağı
- B) Yamaç kaynağı
- C) Artezyen kaynak
- D) Karstik kaynaklar

5. I. Bir dağ yamacı boyunca bitki örtüsünün farklılık göstermesi
II. Çöllerde kurakçıl bitkilerin görülmesi
III. Gevşek dokulu topraklarda bitkilerin daha kolay gelişmesi

Yukarıda verilenlerden hangileri sıcaklık ve yağış şartlarının bitkilerin dağılışına etki ettiğine örnek olarak gösterilebilir?

- A) Yalnız I.
- B) Yalnız II.
- C) I. ve II.
- D) II. ve III.

6. Aşağıdakilerden hangisi yükseltinin toprak oluşumunu etkilediğine kanıt olarak gösterilebilir?

- A) Toprak kalınlığının her yerde aynı olmaması
- B) Toprağın farklı horizonlardan oluşması
- C) Bir dağ yamacında farklı toprakların görülmesi
- D) Farklı renklerde toprakların oluşması

7. Göllerin fazla sularını boşaltan akarsulara ne ad verilir?

- A) Akifer
- B) Gidegen
- C) Akım
- D) Rejim

8. Aşağıdakilerden hangisi zonal toprakların özellikleri arasında gösterilemez?

- A) Anakayanın ayrışmasıyla oluşmuşlardır.
- B) Toprak horizonları sıralı biçimde bulunur.
- C) Bulunduğu yerin iklim özelliklerini yansıtır.
- D) Dış kuvvetler tarafından taşınmıştır.

3. OTURUM

9. Kalkerli arazi üzerinde oluşmuş bir göl için aşağıdakilerden hangisi kesinlikle söylenebilir?

- A) Suları kireçlidir.
- B) Göl dışı akışlıdır.
- C) Suları sürekli soğuktur.
- D) Deniz seviyesinden yüksektedir.

10. I. Kuzeyden gelen rüzgarların sıcaklığı düşürmesi
II. Doğusu ile batısı arasında 76 dakika zaman farkı bulunması
III. Kuzeye gidildikçe güneş ışınlarının geliş açısının küçülmesi

Yukarıdakilerden hangisi ülkemizin Kuzey Yarım Küre'de yer almasının sonucunda oluşmuştur?

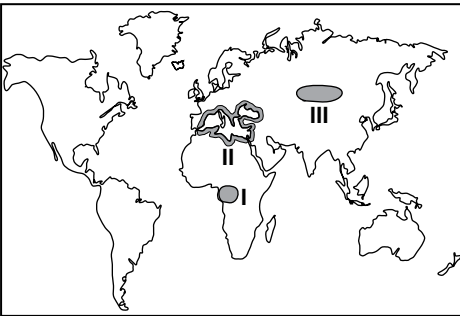
- A) Yalnız I.
- B) II. ve III.
- C) I. ve II.
- D) I. ve III.

11. I. Tendürek dağları
II. Küre dağları
III. Nur dağları
IV. Melendiz dağları
V. Bolkar dağları

Yukarıdaki dağ kütleleri oluşumlarına göre ikiye gruplandırılırsa hangisi dışarda kalır?

- A) I.
- B) II.
- C) III.
- D) IV.

12.



Haritada işaretli alanlarda yaygın olarak görülen bitki formasyonları aşağıdakilerden hangisinde doğru verilmiştir?

- | I | II | III |
|---------|------|------|
| A) Çalı | Ot | Ağaç |
| B) Çalı | Ağaç | Ot |
| C) Ağaç | Çalı | Ot |
| D) Ot | Ağaç | Çalı |

13. Ülkemizde dağlar genellikle doğu-batı doğrultuda uzanış göstermektedir.

Bu durum ülkemizin hangi özelliğinden kaynaklanmaktadır?

- A) Karstik arazinin geniş yer kaplaması
- B) Üç tarafının denizlerle çevrili olması
- C) Dış kuvvetlerin bu yönde aşındırma yapması
- D) Alp-Himalaya Orojenez sisteminde yer alması

14. I. Asya
II. Afrika
III. Kuzey Amerika
IV. Okyanusya

Yukarıda verilen kıtalardan hangi ikisinin nüfusu diğerlerinden daha azdır?

- A) I. ve II.
- B) II. ve III.
- C) I. ve IV.
- D) III. ve IV.

15. Aşağıdakilerden hangisi dünya nüfusunda herhangi bir değişikliğe neden olmaz?

- A) Savaşlar
- B) Göçler
- C) Salgın hastalıklar
- D) Doğal afetler

16. I. Tarımsal faaliyetlerin yaygın olması
II. Eğitim seviyesinin düşük olması
III. Aile planlamasının yapılması

Az gelişmiş ülkelerde nüfus artış hızının yüksek olmasının sebepleri arasında yukarıdakilerden hangileri gösterilebilir?

- A) Yalnız I.
- B) Yalnız III.
- C) I. ve II.
- D) I. ve III.

17. Maki bitki örtüsünün yaygın olduğu bir alanda aşağıdaki toprak türlerinden hangisi daha yaygındır?

- A) Terra rossa
- B) Laterit
- C) Podzol
- D) Vertisol

18. Aşağıdakilerden hangisinin Dünya nüfusunun artmasında etkili olduğu söylenemez?

- A) Beslenme koşullarının iyileşmesi
- B) Kadınların çalışma hayatına girmesi
- C) Tıp alanındaki ilerlemeler
- D) Sanayi devrimi

19. 2000 yılı nüfus sayımı anket formundaki bir soru: "Beş yıl önce şu anda ikamet ettiğiniz yerleşim yerinde mi yaşıyordunuz?" şeklindedir.

Bu soru ile aşağıdaki bilgilerden hangisi elde edilebilir?

- A) Nüfusun eğitim düzeyi
- B) Nüfus hareketleri
- C) Aritmetik nüfus yoğunluğu
- D) Tarımsal nüfus yoğunluğu

20. I. Himalaya dağları
II. Orta Asya
III. Kutup çevresi

Yukarıda verilen alanların hangisinde nüfus yoğunluğunun az olmasında yer şekilleri etkili olmuştur?

- A) Yalnız I.
- B) Yalnız II.
- C) I. ve II.
- D) I. ve III.

(154) COĞRAFYA – 4

1. Aşağıdakilerden hangisi volkanik dağdır?

- A) Karacadağ
- B) Aydın dağları
- C) Kafkas Dağları
- D) Kaçkar Dağları

2. Aktif volkan bölgeleri insan yaşamı için tehlikeli olmasına karşın nüfusun yoğun olduğu alanlardır.

Bu durum volkanik bölgelerin hangi özelliğiyle açıklanabilir?

- A) Ulaşım imkânlarının kolaylığıyla
- B) Tarihi şehirlere yakın olmalarıyla
- C) Turizm bakımından gelişmiş olmalarıyla
- D) Verimli tarım alanları oluşturmalarıyla

3. OTURUM

3. Aşağıdakilerden hangisi ormanlardan elde edilen ana üründür?

- A) Tomruk B) Reçine
C) Sığla yağı D) Defne yaprağı

4. Aşağıdakilerden hangisi Türkiye'deki akarsuların özellikleri arasında yer almaz?

- A) Akış hızları fazladır.
B) Yatak eğimleri fazladır.
C) Taşımacılığa elverişlidir.
D) Hidroelektrik potansiyelleri yüksektir.

5. Tuz Gölü'nün yüzölçümünde yıl içinde görülen önemli değişimin sebebi aşağıdakilerden hangisidir?

- A) Gölde sürekli tuz elde edilmesi
B) Göl çevresinin orman bakımından fakir olması
C) Göl çevresindeki arazinin sade yapıda olması
D) Yaz mevsiminin aşırı sıcak ve kurak geçmesi

6. Aşağıdakilerden hangisi yoğun biçimde göç verdiği için nüfusu azalan illerimizden biridir?

- A) Antalya B) Aydın
C) Artvin D) Manisa

7. Aşağıdaki liman şehirlerinden hangisinin hinterlandı diğerlerine göre daha dardır?

- A) İzmir B) Trabzon
C) İzmit D) Mersin

8. Ülkemizde yaylacılık faaliyetlerindeki temel amaç aşağıdakilerden hangisidir?

- A) Arıcılık yapmak
B) Sebze yetiştirmek
C) Hayvanları otlatmak
D) Festivaller düzenlemek

9. Aşağıdakilerden hangisi bir yerleşim biriminin kır veya kent olarak sınıflandırılmasında göz önüne alınan temel faktördür?

- A) Yükseltisi B) Arazi yapısı
C) Bitki örtüsü D) Nüfus miktarı

10. Aşağıdaki doğal afetlerden hangisinin oluşumunda insan etkisi vardır?

- A) Deprem
B) Erozyon
C) Tsunami
D) Volkanizma

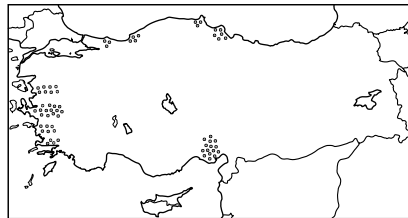
11. Aşağıdakilerden hangisi göçe neden olan itici faktörlerden biri değildir?

- A) Sağlık imkânlarının yetersiz olması
B) Tarımda makineleşmenin artması
C) Kentlerde iş imkânlarının fazla olması
D) Miras yoluyla toprakların parçalanması

12. Toprak yüzeyinin dış kuvvetler tarafından aşındırılarak taşınmasına ne denir?

- A) Erozyon B) Ekosistem
C) Humus D) Podzolleşme

13.



Haritada noktalanarak gösterilen alanlarda aşağıdaki toprak türlerinden hangisi daha yaygındır?

- A) Terra - Rossa
B) Alüvyon
C) Çernezyon
D) Kahverengi Bozkır Toprakları

14. Temmuz ayında en yüksek sıcaklık değerleri aşağıdaki alanlardan hangisinde görülür?

- A) Şanlıurfa ve doğusu
B) Antalya ve çevresi
C) Konya ve çevresi
D) İzmir ve güneyi

15. Aşağıdakilerden hangisi Türkiye nüfusunun özelliklerinden değildir?

- A) Eğitim düzeyinin giderek artması
B) Kırsal nüfusun daha fazla olması
C) Ortalama yaşam süresinin uzaması
D) Kentsel nüfusunun giderek artması

16. Aşağıdakilerden hangisi mevsimlik göçlere örnek değildir?

- A) Pamuk toplamak için Çukurova'ya gelmek
B) Yazın çalışmak için turistik yörelere gitmek
C) Yaz mevsiminde yaylaya çıkmak
D) İşsizlik nedeniyle büyük şehirlere göç etmek

17. Türkiye'nin günümüz nüfusu yaklaşık olarak ne kadardır?

- A) 15 milyon kişi
B) 30 milyon kişi
C) 75 milyon kişi
D) 90 milyon kişi

18. Doğal afetlerin her geçen yıl daha fazla can ve mal kaybına neden olması aşağıdakilerden hangisiyle paralellik gösterir?

- A) Eğitim seviyesinin yükselmesiyle
B) Doğal dengenin bozulma hızıyla
C) Turizm faaliyetine katılımın artmasıyla
D) Çevre ve doğa bilincinin gelişmesiyle

3. OTURUM

19. Aşağıdakilerden hangisi ülkemizin iğne yapraklı ağaç türlerinden biridir?

- A) Sedir B) Meşe
C) Kestane D) Akçaağaç

20. Aşağıdakilerden hangisi gelişmiş ülkelere ait nüfus özelliği değildir?

- A) Nüfus artış hızı yüksektir.
B) Okur-yazar oranı yüksektir.
C) Doktor başına düşen hasta sayısı azdır.
D) Aktif nüfusun büyük kısmı hizmet sektöründe çalışmaktadır.

(158) COĞRAFYA – 8

1. Türkiye'nin kuzeydoğusunda yer alan sınır komşusu aşağıdakilerden hangisidir?

- A) Irak B) İran
C) Gürcistan D) Bulgaristan

2. Kırsal yerleşmelerde nüfus miktarını aşağıdakilerden hangisi daha çok etkiler?

- A) Tarımda makineleşme
B) İş gücüne ihtiyaç duyulması
C) Bebek ölümlerinin yaşanması
D) Nüfusun askeri güç olarak görülmesi

3. Ülkelerin gelişmişlik düzeyini belirlemede en önemli ölçüt aşağıdakilerden hangisidir?

- A) Toplam nüfus
B) İş gücü ihtiyacı
C) Bağımlı nüfus sayısı
D) Kişi başına düşen gelir

4. Aşağıdakilerden hangisinin gelişmesinde Türkiye'nin, Asya ve Avrupa kıtaları arasında bulunmasının etkisi yoktur?

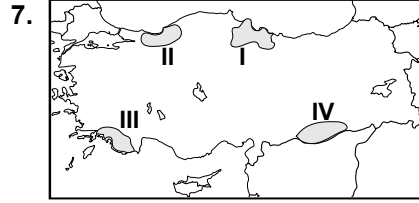
- A) Ticari faaliyetler
B) Yeraltı kaynakları
C) Turizm etkinlikleri
D) Kültürel zenginlik

5. Aşağıdakilerden hangisi Orta Doğu petrollerinin çıkış kapısı olarak tarif edilir?

- A) Bering Boğazı
B) Hürmüz Boğazı
C) Macellan Boğazı
D) Cebelitarık Boğazı

6. Ormanlar için aşağıdakilerden hangisi söylenemez?

- A) Erozyonu önler.
B) Su dengesini düzenler.
C) Küresel ısınmaya neden olur.
D) Atmosferdeki karbondioksit dengesini sağlar.



Yeşilirmak Havzası Gelişim Projesi haritada numaralandırılmış alanların hangisinde uygulanmaktadır?

- A) I. B) II. C) III. D) IV.

8. Türkiye'nin uluslararası ilişkileri üzerinde aşağıdakilerden hangisinin etkisi daha azdır?

- A) Askeri gücünün
B) Coğrafi konumunun
C) Yeraltı kaynaklarının
D) Kültürel değerlerinin

9. Aşağıdaki sorunlardan hangisi Türkiye'yi doğrudan ilgilendirmektedir?

- A) Makedonya sorunu
B) Kosova sorunu
C) Filistin sorunu
D) Kıbrıs sorunu

10. Orta Doğu'nun uluslararası alanda önemli bir bölge olmasında aşağıdakilerden hangisinin etkisi daha azdır?

- A) Kutsal mekânları barındırması
B) Ticaret yollarının kavşak noktasında bulunması
C) Sıcak iklim özelliklerine sahip olması
D) Petrol rezervlerinin büyük bir bölümüne sahip olması

11. Ülkeler arasındaki su sorunu, su kaynaklarının ortak kullanıma açık olmasından kaynaklanmaktadır.

Buna göre aşağıdaki akarsulardan hangisi uluslararası sorunlara neden olabilir?

- A) Gediz B) Göksu
C) Dicle D) Yeşilirmak

12. Bir ülkenin nüfus piramidinin tabanı daralıyorsa bunun nedeni aşağıdakilerden hangisidir?

- A) İç göçlerin yaşanması
B) İşsizlik oranının artması
C) Bağımlı nüfusun artması
D) Nüfus artış hızının düşmesi

13. Ülkelerin siyasi açıdan dünya üzerinde buldukları yeri ve etkilerini araştıran bilim aşağıdakilerden hangisidir?

- A) Biyocoğrafya
B) Fiziki coğrafya
C) Siyasi coğrafya
D) Ekonomik coğrafya

14. Aşağıdakilerden hangisi Türkiye'nin uluslararası alanda önemini artıran özelliklerden biridir?

- A) İstanbul ve Çanakkale boğazlarına sahip olması
B) Nüfus artış hızının giderek düşmesi
C) Orman bakımından fakir bir ülke olması
D) Dağlarının doğu-batı yönünde uzanması

3. OTURUM

(163) MATEMATİK – 3

15. İnsani Gelişme Endeksi hangi kuruluş tarafından yayınlanmaktadır?

- A) Avrupa Birliği
B) Birleşmiş Milletler
C) Avrupa Konseyi
D) Dünya Bankası

16. Almanya ekonomisinde aşağıdaki sektörlerden hangisinin payı daha fazladır?

- A) Madencilik B) Tarım
C) Sanayi D) Turizm

17. Aşağıdakilerden hangisi insan yaşamı için öncelikli olarak korunması gereken doğal kaynaktır?

- A) Su B) Orman
C) Petrol D) Uranyum

18. Aşağıdakilerden hangisi doğal mirasın korunmasında yapılan yanlış bir uygulamadır?

- A) Çöplerin geri dönüşüm için ayıklanması
B) Ormanların gençleştirilip, genişletilmesi
C) Su kaynaklarının hızlı tüketilmesi
D) Düşük yakıt tüketen araçların tercih edilmesi

19. Doğu Anadolu Projesi içerisinde yer alan illerde yoğun olarak yapılan ekonomik faaliyet aşağıdakilerden hangisidir?

- A) Sanayi
B) Madencilik
C) Ticaret ve Ulaşım
D) Tarım ve Hayvancılık

20. Gelişmekte olan bir ülkede aşağıdaki durumlardan hangisi gözlemlenmez?

- A) İstihdam miktarı artar.
B) Enerjiye olan talep azalır.
C) Sanayi ve hizmet sektörü gelişir.
D) Kişi başına düşen milli gelir yükselir.

1. $\frac{6! - 5!}{6! + 5!}$ işleminin sonucu kaçtır?

- A) $\frac{1}{11}$ B) $\frac{4}{11}$ C) $\frac{3}{5}$ D) $\frac{5}{7}$

2. Birbirinden farklı 4 pantolon, 5 gömlek ve 2 kravatı olan bir kişi, 1 pantolon, 1 gömlek ve 1 kravatı kaç farklı şekilde seçebilir?

- A) 11 B) 20 C) 28 D) 40

3. $K = \{a, b, c, d, e, f\}$ kümesinin 4 elemanlı alt kümelerinin sayısı kaçtır?

- A) 24 B) 20 C) 15 D) 10

4. Bir çift zar atılıyor. Üst yüze gelen sayıların toplamının 3 olma olasılığı nedir?

- A) $\frac{1}{6}$ B) $\frac{1}{18}$ C) $\frac{1}{24}$ D) $\frac{1}{36}$

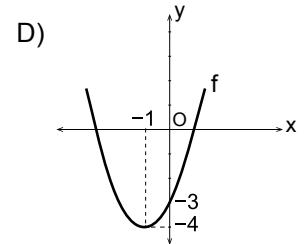
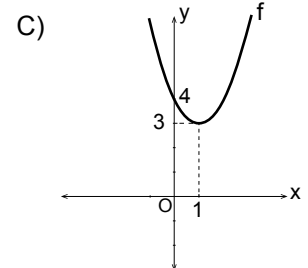
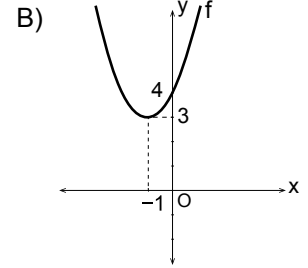
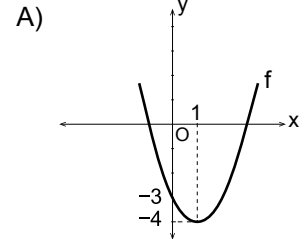
5. $f, g: \mathbb{R} \rightarrow \mathbb{R}$, $f(x) = 2x + 8$ ve $g(x) = 5x - 3$ olduğuna göre, $(f - g)(2)$ değeri kaçtır?

- A) 7 B) 5 C) 4 D) 3

6. $f, g: \mathbb{R} \rightarrow \mathbb{R}$, $f(x) = x + 2$, $g(x) = 3x - 1$ fonksiyonları veriliyor. Buna göre, $(f \circ g)(3)$ değeri kaçtır?

- A) 8 B) 9 C) 10 D) 11

7. $f(x) = (x - 1)^2 + 3$ fonksiyonunun grafiği aşağıdakilerden hangisidir?



8. f bire bir ve örten bir fonksiyondur. $f(x) = 3x + 5$ olduğuna göre, $f^{-1}(x)$ aşağıdakilerden hangisidir?

- A) $\frac{x+5}{3}$ B) $3x - 5$
C) $-3x - 5$ D) $\frac{x-5}{3}$

9. $A(2,5)$ ve $B(4,3)$ noktaları veriliyor. $[AB]$ 'nin orta noktasının koordinatları (a,b) olduğuna göre, $a + b$ kaçtır?

- A) 7 B) 6 C) 5 D) 4

3. OTURUM

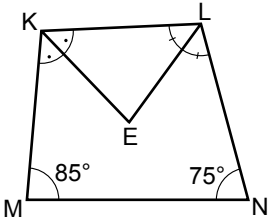
10. B(4,2) ve C(2,4) noktalarından geçen doğrunun eğimi nedir?

- A) -1 B) -2 C) $\frac{2}{5}$ D) $\frac{2}{3}$

11. Analitik düzlemde E(3, -5) noktasının $6x - 8y - 3 = 0$ doğrusuna olan uzaklığı kaç birimdir?

- A) $\frac{5}{2}$ B) $\frac{7}{2}$ C) $\frac{9}{2}$ D) $\frac{11}{2}$

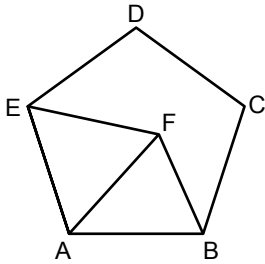
12.



Şekildeki KMLN dörtgeninde $[KE] \perp [ML]$ 'nin; $[LE] \perp [KN]$ 'nin açıortayıdır. $m(\widehat{KMN}) = 85^\circ$ ve $m(\widehat{LNM}) = 75^\circ$ olduğuna göre, $m(\widehat{KEL})$ kaç derecedir?

- A) 70 B) 80 C) 90 D) 100

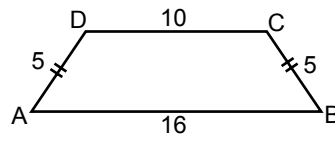
13.



ABCDE düzgün beşgen ve AFE eşkenar üçgen olduğuna göre, $m(\widehat{FBC})$ kaç derecedir?

- A) 42 B) 48 C) 58 D) 66

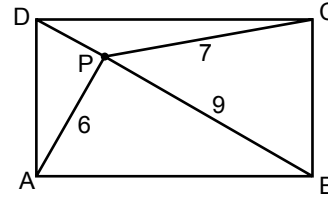
14.



Şekilde ABCD yamuğunda, $[DC] \parallel [AB]$ 'dir. $|AD| = |BC| = 5$ cm, $|DC| = 10$ cm ve $|AB| = 16$ cm olduğuna göre, ABCD yamuğunun alanı kaç santimetrekaredir?

- A) 48 B) 52 C) 60 D) 80

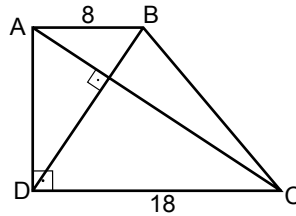
15.



ABCD dikdörtgeninde P iç bölgede bir noktadır. $|PA| = 6$ cm, $|PC| = 7$ cm ve $|PB| = 9$ cm olduğuna göre, $|PD|$ kaç santimetredir?

- A) 2 B) $2\sqrt{3}$
C) 3 D) $3\sqrt{3}$

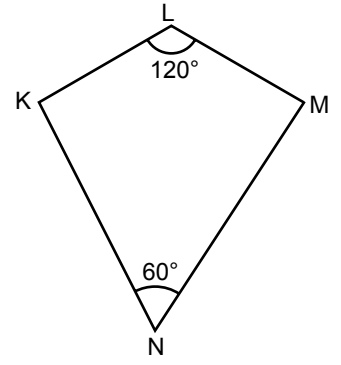
16.



Şekildeki ABCD dik yamuğunda, $[AB] \parallel [DC]$, $[AD] \perp [DC]$ ve $[BD] \perp [AC]$ 'tir. $|AB| = 8$ cm ve $|DC| = 18$ cm olduğuna göre, $|AD|$ kaç santimetredir?

- A) $10\sqrt{2}$ B) 12
C) $12\sqrt{3}$ D) 16

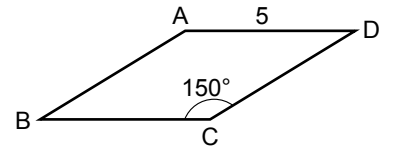
17.



Şekildeki KNML deltoidinde, $|LK| = |LM| = 12$ cm, $m(\widehat{KLM}) = 120^\circ$ ve $m(\widehat{MNK}) = 60^\circ$ olduğuna göre, $|MN|$ kaç santimetredir?

- A) $12\sqrt{3}$ B) $10\sqrt{3}$
C) $8\sqrt{3}$ D) $6\sqrt{3}$

18.



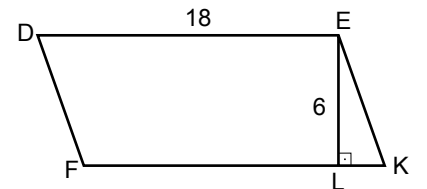
Şekildeki ABCD eşkenar dörtgeninde, $|AD| = 5$ cm ve $m(\widehat{BCD}) = 150^\circ$ olduğuna göre, eşkenar dörtgenin alanı kaç santimetrekaredir?

- A) $\frac{15}{2}$ B) $\frac{25}{2}$ C) 25 D) 50

19. Bir iç açısının ölçüsü 140° olan düzgün çokgen kaç kenarlıdır?

- A) 15 B) 12 C) 10 D) 9

20.



Şekildeki DFKE paralelkenarında, $[EL] \perp [FK]$ 'tir. $|DE| = 18$ cm ve $|EL| = 6$ cm olduğuna göre, DFKE paralelkenarının alanı kaç santimetrekaredir?

- A) 72 B) 96 C) 108 D) 126

3. OTURUM

(165) MATEMATİK – 5

1. i^{15} ifadesi aşağıdakilerden hangisine eşittir?

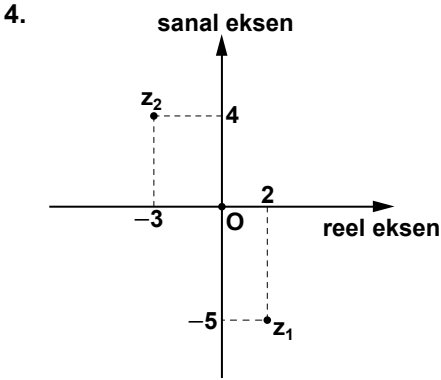
- A) -2 B) $-i$ C) 0 D) i

2. $x^2 - 4x + 6 = 0$ denkleminin köklerinden biri aşağıdakilerden hangisidir?

- A) $2 + \sqrt{10}i$ B) $2 - \sqrt{5}i$
C) $2 - \sqrt{2}i$ D) $2 + \sqrt{3}i$

3. $z_1 = 2x + 1 + (y - 6)i$, $z_2 = 7 - 5i$ ve $z_1 = z_2$ olduğuna göre, $x \cdot y$ kaçtır?

- A) -11 B) -4
C) 3 D) 44



Karmaşık düzlemde gösterilen z_1 ve z_2 karmaşık sayıları için $z_1 + z_2$ aşağıdakilerden hangisine eşittir?

- A) $-1 - i$ B) $-3 + i$
C) $-2 + 6i$ D) $1 + 9i$

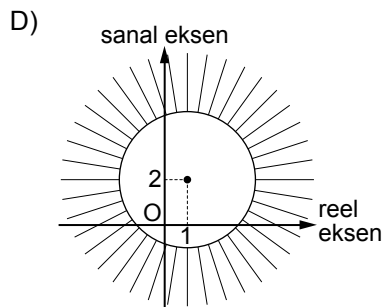
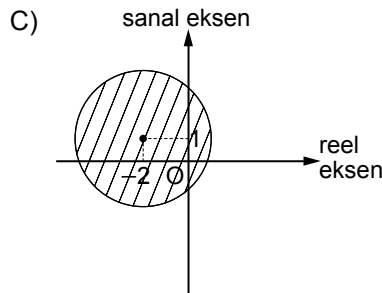
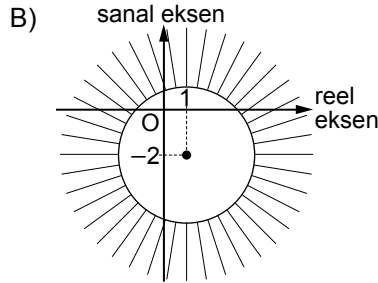
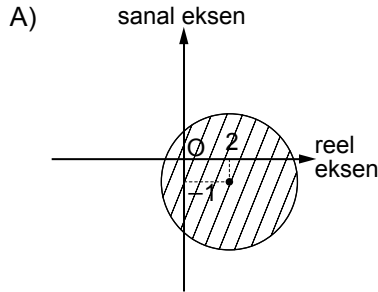
5. $z = x + yi$ olmak üzere, $2z - \bar{z} = 3 - 6i$ eşitliğini sağlayan z karmaşık sayısı aşağıdakilerden hangisidir?

- A) $3 - 2i$ B) $2 - 3i$
C) $4 - i$ D) $1 - 2i$

6. $(2 - 3i)^2 \cdot (1 + i)$ işleminin sonucu aşağıdakilerden hangisidir?

- A) $25 + i$ B) $7 - 17i$
C) $9 + 9i$ D) $-7 - 7i$

7. $|z + 2 - i| \leq 3$ koşulunu sağlayan z karmaşık sayılarının karmaşık düzlemdeki görüntüleri olan noktalar kümesi aşağıdakilerden hangisinde gösterilmiştir?



8. $z = \sqrt{3} + 3i$ karmaşık sayısının kutupsal biçimde yazılışı aşağıdakilerden hangisidir?

- A) $3\sqrt{3} \operatorname{cis} \frac{\pi}{6}$
B) $3\sqrt{3} \operatorname{cis} \frac{2\pi}{3}$
C) $2\sqrt{3} \operatorname{cis} \frac{5\pi}{6}$
D) $2\sqrt{3} \operatorname{cis} \frac{\pi}{3}$

9. Kutupsal koordinatları $(4, \frac{2\pi}{3})$ olan z karmaşık sayısı aşağıdakilerden hangisidir?

- A) $-2 + 2\sqrt{3}i$ B) $2 - 2\sqrt{3}i$
C) $2\sqrt{3} - 2i$ D) $2\sqrt{3} + 2i$

10. $z = 4 - 4\sqrt{3}i$ karmaşık sayısının kareköklerinden biri aşağıdakilerden hangisidir?

- A) $-\sqrt{3} + i$ B) $2 - 2\sqrt{3}i$
C) $2 + \sqrt{3}i$ D) $-\sqrt{6} + \sqrt{2}i$

11. $z_1 = 16(\cos \frac{3\pi}{2} + i \sin \frac{3\pi}{2})$ ve $z_2 = 4(\cos \frac{\pi}{4} + i \sin \frac{\pi}{4})$ olduğuna göre, $\frac{z_1}{z_2}$ aşağıdakilerden hangisidir?

- A) $2\sqrt{2}(-1 - i)$
B) $2(-1 + i)$
C) $\sqrt{2}(1 + i)$
D) $4(1 - i)$

12. $z = \sqrt{2}(\cos \frac{7\pi}{10} + i \sin \frac{7\pi}{10})$ olduğuna göre, z^{10} aşağıdakilerden hangisine eşittir?

- A) -64 B) -32
C) 8 D) 16

13. $5^{3x} = 5^{5x+8}$ olduğuna göre, x kaçtır?

- A) -4 B) -1 C) 1 D) 4

3. OTURUM

(206) PSİKOLOJİ – 1

14. $\log_2 27 \cdot \log_3 25 \cdot \log_5 16$ işleminin sonucu kaçtır?
A) 8 B) 12 C) 16 D) 24
15. $9^{\log_3 5} + 4^{\log_4 3}$ işleminin sonucu kaçtır?
A) 36 B) 28 C) 24 D) 13
16. $\log(\log_2(\log_3 x)) = 0$ olduğuna göre, x kaçtır?
A) 0 B) 3 C) 9 D) 10
17. $f: \mathbb{R}^+ \rightarrow \mathbb{R}, f(x) = \log_3 x + 2$ olduğuna göre, $f^{-1}(x)$ aşağıdakilerden hangisidir?
A) 3^{x+2} B) $3^x + 2$
C) $3^x - 2$ D) 3^{x-2}
18. $\log_3 2 = a$ ve $\log_3 5 = b$ olduğuna göre, $\log_3 80$ 'in a ve b cinsinden eşiti aşağıdakilerden hangisidir?
A) 8ab B) 2a + 5b
C) 4a + 4b D) 4a + b
19. $\log_3 81 + \log_2 x = 7$ olduğuna göre, x kaçtır?
A) 4 B) 8 C) 12 D) 16
20. $\log_2(x+1) + \log_2(x-1) = 3$ denkleminin çözüm kümesi aşağıdakilerden hangisidir?
A) $\left\{\frac{3}{2}\right\}$ B) $\left\{\frac{3}{2}, 3\right\}$
C) $\{3\}$ D) $\{\}$

1. Aşağıdakilerden hangisi psikoloji biliminin incelediği konulardan değildir?
A) İnsan davranışlarının fizyolojik temelleri
B) Bireyin yaşa bağlı davranış değişiklikleri
C) Sosyal olayların nedenleri
D) Bireyin zeka ve kişiliği
2. 1879 yılında, Leipzig'de psikoloji laboratuvarını kurarak psikolojiye deneysel bilim dalı olma ünvanını kazandıran psikolog hangisidir?
A) John Dewey
B) Kurt Kofka
C) Wilhelm Wundt
D) Sigmund Freud
3. "Organizmanın doğrudan veya dolaylı olarak gözlenebilen tüm etkinlikleridir."
Yukarıda tanımı verilen kavram hangisidir?
A) Davranış B) Uyarım
C) Gündü D) Bilim
4. Davranışlar bir bütündür, parçalara ayrılmaz ve tek tek anlamı olmayan parçalar bütünlük içinde anlam kazanır.
Açıklaması verilen psikoloji yaklaşımı aşağıdakilerden hangisidir?
A) Yapısalcılık
B) İşlevselcilik
C) Davranışçılık
D) Gestaltçı yaklaşım

5. Bireyin toplumla ilişkilerini ve toplumun bireyi etkilemesiyle ilgili olaylar üzerinde araştırmalarını sürdüren psikoloji dalıdır.
Yukarıda açıklanan psikoloji dalı hangisidir?
A) Genetik psikoloji
B) Fizyolojik psikoloji
C) Sosyal psikoloji
D) Klinik psikoloji
6. Uyarıcıların duyu organını uarması durumu aşağıdaki kavramlardan hangisiyle adlandırılır?
A) Duyum B) İhtiyaç
C) Alışma D) Gündü
7. Yetersiz uyarımın sonucunda insanlarda aşağıdakilerden hangisi görülmez?
A) Sanrı görme
B) Düzensiz davranışlar
C) Algılama bozuklukları
D) Zekâ düzeyinde yükselme
8. Aşağıdakilerden hangisi güdülenmiş davranışın özelliklerinden değildir?
A) Davranışlar belli bir doğrultuya yönelmiştir.
B) Doğuştan getirilen refleksel davranışlardır.
C) Organizma mutlaka harekete geçer.
D) Gündülenmiş bir davranış seçicidir.
9. Aşağıdakilerden hangisi toplumsal güdüye neden olan ihtiyaçlardandır?
A) Açlık
B) Susuzluk
C) Dinlenme
D) Başarılı olmak

3. OTURUM

10. Farklı toplumsal normlara sahip iki insanın aynı durumla karşılaştıklarında farklı tepki göstermelerinin nedeni aşağıdakilerden hangisidir?

- A) Algı dayanağı
- B) Algı yanılması
- C) Yetersiz uyarım
- D) Algıda değişmezlik

11. Yaşadığımız süre zevkli ise zaman kısa, zevksiz ise uzun olarak algılanır.

Bu durumu aşağıdaki kavramlardan hangisi ifade eder?

- A) Algıda organizasyon
- B) Algıda değişmezlik
- C) Figür – fon algısı
- D) Subjektif zaman algısı

12. Aşağıdakilerden hangisi illüzyonun özelliklerindedir?

- A) Çevrede uyarıcı bulunmadığı halde, varmış gibi görülmesidir.
- B) Var olan bir uyarıcının organik ya da psikolojik nedenlerle yanlış algılanmasıdır.
- C) Gerçek bir algı yanılması değil nesnesiz bir algıdır.
- D) Tamamen zihnin icadı olan imgelerdir.

13. Aşağıdaki algılardan hangisinde, dış faktör etkili olmuştur?

- A) Acıkıldığında, yiyeceklerin daha lezzetli algılanması
- B) Aynı gri rengin beyaz zeminde koyu, siyah zeminde açık algılanması
- C) Sevilen kişinin iyi yönlerinin gözde büyütülerek algılanması
- D) Benimsenilen düşüncelere uygun şeylerin kolayca algılanması

14. Öğrenmenin tanımı aşağıdakilerden hangisidir?

- A) İnsanın gözlenebilen davranışlarıdır.
- B) Belirli bir tepkiyi doğal olarak harekete geçiren uyarandır.
- C) Bir türe ait ortaklaşa özelliklerin bir ad altında toplanmasıdır.
- D) Tekrar ya da yaşantı sonucu davranışta meydana gelen devamlı bir değişikliktir.

15. Çocuğa, bisiklete binmeyi öğretmek için yeterli bedensel gelişme düzeyine gelmesini beklemek gerekir.

Burada öğrenmeye etki eden faktörlerden hangisinin önemi vurgulanmaktadır?

- A) Organizmanın genel uyarılmışlık durumu
- B) Öğrenmede türe özgü hazır olma
- C) Öğrenmede olgunlaşma
- D) Öğrenmede güdülenme

16. Aşağıdakilerden hangisi öğrenmeyi zorlaştırıcı bir etkendir?

- A) Öğrenilecek materyalin anlamsız olması
- B) Öğrenilecek konuya güdülenme
- C) Öğrenilenleri tekrarlama
- D) Okuma ve anlatma

17. Aşağıdakilerden hangisi belleğin temel işlemlerinden biri değildir?

- A) Kodlama
- B) Saklama
- C) Koşullanma
- D) Çağırma

18. Yaratıcı düşünme, bazı evrelerden geçilerek tamamlanır.

Aşağıdakilerden hangisi yaratıcı düşünmenin evrelerinden değildir?

- A) Kuluçka evresi
- B) Ket vurma
- C) İlham evresi
- D) Gözden geçirme evresi

19. Aşağıdakilerden hangisi unutmayı güçleştiren nedenlerdendir?

- A) İleriye ket vurma
- B) Beyinde hücre kaybı
- C) Öğrenilenlerin kullanılmaması
- D) Öğrenmeden sonra tekrarlar yapılması

20. İnsanın normal bilinçlilik durumu aşağıdakilerden hangisidir?

- A) Uyanıklılık dönemleri
- B) Uyku ve rüyalar
- C) Meditasyon
- D) Hipnoz

(209) SOSYOLOJİ – 2

1. Kültürün tanımı aşağıdakilerden hangisinde verilmiştir?

- A) Her toplumun kendine özgü kültürel değerleri vardır.
- B) Kültürsüz toplum yoktur.
- C) Kültür her zaman değişim ve gelişim gösterir.
- D) İnsanın doğayla mücadelesi içerisinde oluşturmuş olduğu her şeydir.

2. Topluları birbirinden ayıran kültürel özelliklerin bütünü aşağıdakilerden hangisiyle adlandırılır?

- A) Kültürel katılma
- B) Kültürel çatışma
- C) Kültürel farklılık
- D) Kültürel değişme

3. Kültür konusunda “hars” ve “medeniyet” ayrımı yaparak, hars ile milli kültürü, medeniyetle de kültürün evrensel yönünü ifade eden sosyolog kimdir?

- A) Ziya Gökalp
- B) Auguste Comte
- C) Emile Durkheim
- D) Max Weber

4. Aşağıdaki ifadelerden hangisi toplumsal kurumlarla ilgili olarak söylendiğinde yanlış olur?

- A) Bir toplumsal kurumdaki değişme diğer kurumları da etkiler
- B) Zorunlu olarak bir takım toplumsal gereksinimleri gidermektedirler.
- C) Her kurumdan beklenen kural, değer ve davranış örüntüleri farklıdır.
- D) Toplumsal kurumlar zaman içinde değişmezler.

3. OTURUM

5. • Kadın ve erkeğin tek eşle evlenmesidir.
• Eşlerin, ana-babalarından ayrı evde oturmasıdır.

Verilenlerin karşılığı olan kavramlar hangisinde birlikte yer almıştır?

- A) Egzogami - Poligami
B) Monogami - Neolokal
C) Endogami - Matrilokal
D) Monogami – Patrilokal

6. **Ailenin psikolojik işlevi aşağıdakilerden hangisidir?**

- A) Çocuğa, içinde yaşadığı toplumun kültürünü öğretme
B) Aile üyelerinin beslenme, barınma gibi ihtiyaçlarını karşılama
C) Aile üyelerinin sevgi, saygı gibi duygusal ihtiyaçlarını sağlama
D) Neslin devamını sağlama

7. **Aşağıdakilerden hangisi, çekirdek ailenin özelliklerinden değildir?**

- A) Tek eşliliğin olduğu ailedir.
B) Akralalık baba tarafından geçer.
C) Evli çift, ana babalarından ayrı bir evde oturur.
D) Evlenme ve boşanma hukuk kurallarıyla gerçekleşir.

8. Çok tanrılı din anlamına gelir. Çok sayıda tanrıya inanmadır. Tanrıların insanlar gibi yaşayıp insani özellikleri taşıdığına inanılmıştır.

Yukarıda açıklanan dinsel inanış hangisidir?

- A) Politeizm B) Fetişizm
C) Animizm D) Natürizm

9. **Bireylerin inançlarını özgürce yaşayabilmelerine ve ifade edebilmelerine imkan sağlayan demokratik toplum sisteminin vazgeçilmez ilkesi hangisidir?**

- A) Laiklik
B) Devletçilik
C) Güçler ayrılığı
D) Millî egemenlik

10. **Üretim sonucunda elde edilen mal ve hizmet değerlerinin, üretime katılanlar arasında paylaşılması aşağıdakilerden hangisidir?**

- A) Üretim B) Tüketim
C) Bölüşüm D) İş bölümü

11. **Aşağıdakilerden hangisi kapitalist ekonomi sisteminin özelliklerindedir?**

- A) Hangi malların ne miktarda üretileceğini devletin önceden belirlemesi
B) Malların fiyatının ekonomik plânlama ve maliyete göre belirlenmesi
C) Üretim araçlarının mülkiyetinin devletin elinde olması
D) Hangi malların ne miktarda üretileceği kâra göre belirlenmesi.

12. Tüketim malı, insan ihtiyaçlarını doğrudan doğruya karşılayan mallardır.

Buna göre aşağıdakilerden hangisi öncelikle tüketim malına örnek olur?

- A) Ekmek B) Traktör
C) Çimento D) Dikiş makinesi

13. **Aşağıdakilerden hangisi siyasetin temel kavramlarından değildir?**

- A) Devlet B) Meşruiyet
C) Demokrasi D) Sermaye

14. **Aşağıdakilerden hangisi baskıcı yönetimlerin belirgin özelliğidir?**

- A) Sivil toplum kuruluşlarının faaliyetlerini desteklemek
B) Halkı siyaset dışında tutmaya çalışmak
C) Temel hakları güvence altına almak
D) Evrensel hukuk normlarını uygulamak

15. Toplumsal değişme toplumsal hayatın her alanında zaman içerisinde meydana gelen değişmelerdir.

Aşağıda verilen toplumsal değişme ile ilgili yargılardan hangisi yanlıştır?

- A) Toplumsal değişme, bütün toplumlar için kaçınılmaz bir olgudur.
B) Toplumsal değişme süreklidir.
C) Toplumsal değişmenin hızı bütün toplumlarda aynıdır.
D) Bütün toplumlar değişim içindedir.

16. "Bir toplumda maddî ve manevî kültür öğelerinin bir arada işleyen bir bütün oluşturacak biçimde birbirlerini tamamlamamasıdır."

Yukarıda tanımı verilen kavram hangisidir?

- A) Toplumsal ilerleme
B) Toplumsal çözülme
C) Toplumsal bütünleşme
D) Toplumsal dayanışma

17. **Aşağıdakilerden hangisi toplumsal bütünleşmeyi sağlayan nedenlerden değildir?**

- A) Millî değerleri paylaşma
B) Orta tabakanın genişlemesi
C) Manevî değerler etrafında birleşme
D) Toplumsal değerlerden uzaklaşma

18. I. Toplumların kendiliğinden ve herhangi bir müdahale olmadan değişimini ifade eder.
II. Değişmenin, plân ve programlar aracılığıyla istenen yönde ve belli bir sürede gerçekleştirildiği, şiddet ve terör içermeyen değişmelerdir.
III. Tek bir karar mekanizmasının hazırladığı plân ve programların toplumun onayının alınmadan uygulanmasıdır.

Yukarıda verilenlerden hangisi ya da hangileri, toplumsal değişme tiplerinden "demokratik plânlı değişmenin" özelliklerindedir?

- A) Yalnız I B) Yalnız II
C) Yalnız III D) I ve III

3. OTURUM

19. Aşağıdakilerden hangisi toplumsal gelişme düzeyini belirleyen unsurlardan değildir?

- A) Gelir dağılımındaki dengesizlik
- B) Orta tabakanın genişlemesi
- C) Ekonomik büyüme
- D) Toplumsal bütünleşme

20. Aşağıdakilerden hangisi millî birlik bilincinin zayıflamasının nedenlerindendir?

- A) Gelir dağılımının adaletli gerçekleşmesi
- B) Yeni değişmelere uygun normların geliştirilmesi
- C) Kültürel öğelerin, özellikle dilin yozlaşması
- D) Aydınların toplumsal sorunlara duyarlı olması

(242) İNGİLİZCE – 3

1- 19. sorularda boş bırakılan yere uygun gelen kelime ya da ifadeyi işaretleyiniz.

1. I'm looking for - - - - silver bracelet.

- A) ---
- B) a
- C) an
- D) those

2. I really miss - - - - days.

- A) this
- B) that
- C) they
- D) those

3. If you want to be healthy, you should drink - - - - water.

- A) a
- B) any
- C) much
- D) many

4. He is very rich, - - - - he doesn't like to share with the poor.

- A) or
- B) so
- C) yet
- D) and

5. I think the jury will choose - - - - .

- A) theirs
- B) they
- C) your
- D) my

6. I think my car is faster than - - - - car.

- A) him
- B) his
- C) my
- D) it

7. How - - - - does he go to the swimming pool?

- A) often
- B) never
- C) always
- D) usually

8. Love - - - - more important than money.

- A) does
- B) are
- C) be
- D) is

9. Akın and Selim - - - - the doors at the moment.

- A) paint
- B) will paint
- C) is painting
- D) are painting

10. I am very nervous because I - - - - an interview tomorrow.

- A) am going to have
- B) am having
- C) have
- D) had

11. What - - - - they - - - - to do now? They look very strange.

- A) can / try
- B) will / try
- C) do / trying
- D) are / trying

12. My sister is going to be a doctor - - - - .

- A) right now
- B) every day
- C) next year
- D) once a week

13. He is having a shower - - - -.So, he can't go out now.

- A) the following week
- B) at the moment
- C) every day
- D) tomorrow

14. I always drink a glass of milk - - - - .

- A) in the mornings
- B) at the moment
- C) next year
- D) tomorrow

15. My father works hard from 08:00 am to 10:00 pm. He has got - - - - .

- A) lots of toys
- B) an easy job
- C) a punctual student
- D) long working hours

16. She bought a - - - - .

- A) shirt new black expensive
- B) expensive black shirt new
- C) black expensive shirt new
- D) new expensive black shirt

17. A: - - - - you like reading comics?
B: No, I - - - - .

- A) Do / don't
- B) Does / doesn't
- C) Do / doesn't
- D) Does / don't

18. A: - - - - kind of movies do you like?

B: I like scary movies.

- A) How
- B) What
- C) When
- D) Whose

19. A: - - - - is your favourite football player?

B: Arda Turan.

- A) Who
- B) When
- C) Where
- D) Which

20. are going to / Egypt / soon / to /
4 5 6 1

They / fly .
2 3

Yukarıda karışık olarak verilen kelimelerin doğru sıralandığı seçeneği işaretleyiniz.

- A) 2, 3, 4, 5, 6, 1
- B) 5, 2, 3, 4, 6, 1
- C) 2, 4, 3, 1, 5, 6
- D) 5, 6, 2, 3, 1, 4

3. OTURUM

(242) ALMANCA – 3

1- 16. sorularda boş bırakılan yere uygun gelen ek, kelime ya da ifadeyi işaretleyiniz

1. Das - - - - Auto gehört mir.
A) blauen B) rote
C) schwarz D) grün
2. Das - - - - ist heute sehr schön und die Sonne scheint.
A) Wetter B) Wolken
C) Grad D) Temperatur
3. Er holt seine Freundin - - - - der Schule ab.
A) vom B) vor
C) von D) zum
4. Wir essen - - - - einem Restaurant.
A) zu B) um C) im D) in
5. Der Schrank steht vor - - - - Wand. (die Wand)
A) das B) dem
C) der D) den
6. Die Kinder gehen jeden - - - - in die Schule.
A) Abend B) Mitternacht
C) Nacht D) Morgen
7. A: Wohin gehen Sie?
B: Sie gehen - - - - Theater.
A) das in B) in das
C) von das D) aus das
8. Ich gehe - - - - Freund.
A) in meinem B) zu mein
C) bei mein D) zu meinem

9. A: - - - - gehst du?
B: Ich gehe zu meiner Oma.

A) Zu wem B) Woher
C) Wie D) Mit wem

10. Der jung- - - - - Mann will das hübsch- - - - - Mädchen zum Tanzen einladen.

A) -e /-e B) -er /-e
C) - /-es D) -es /-en

11. Die Sonne scheint, - - - - zum Baden ist das Meer noch zu kalt.

A) weil B) dass
C) denn D) aber

12. laufen, - - - -, gelaufen (Präteritum)

A) läuft B) lief
C) laufe D) laufst

13. Jeden Morgen - - - - ich Tee und - - - - Käse zum Frühstück.

A) trinke / esse B) esse / trinke
C) esse / esse D) trinke / essen

14.



Wo ist die Katze?
Die Katze ist - - - -

A) auf dem Auto
B) neben dem Auto
C) unter dem Auto
D) zwischen dem Auto

15. Hasan und Helmut - - - - nächste Woche nach Amerika reisen.

A) wird B) ist
C) werden D) sein

16. A: - - - - du mir bitte Geld leihen?
B: Nein, ich kann dir leider kein Geld leihen.

A) Können B) Kannst
C) Kann D) Könnte

17. Kurallı bir cümle oluşturunuz.

Michael und Klaus

1

im Supermarkt eingekauft

2

3

haben heute

4

A) 1 / 2 / 3 / 4 B) 3 / 4 / 2 / 1
C) 1 / 4 / 2 / 3 D) 4 / 2 / 3 / 1


18. Aşağıdaki kelimelerden hangisinin Almanca karşılığı yanlış verilmiştir?

A) almak = nehmen
B) unutmak = vergessen
C) yazmak = schreiben
D) nefes almak = kaufen

19. "Her sabah saat 7:00'de kalkıyorum." cümlesinin karşılığı hangi seçenekte verilmiştir?

A) Ich stehe jeden Morgen um 7:00 Uhr auf.
B) Ich werde jeden Morgen um 7:00 Uhr aufstehen.
C) Ich stand jeden Morgen um 7:00 Uhr auf.
D) Ich bin jeden Morgen um 7:00 Uhr aufgestanden.

20. Wie ist das Wetter?



A) Es regnet.
B) Es schneit.
C) Die Sonne scheint.
D) Es ist wolkig.

3. OTURUM

(242) FRANSIZCA – 3

1 – 18. sorularda boş bırakılan yere uygun gelen kelime ya da ifadeyi işaretleyiniz.

1. **A: Gökhan a dix-sept ans?**
B: Non, - - - - n'a pas dix-sept ans.
A) il B) elle C) tu D) ils
2. **A: Vous écoutez la radio le matin?**
B: Oui, je - - - - écoutez.
A) te (t') B) les
C) la (l') D) le (l')
3. **A: Est-ce que vous faites les exercices?**
B: Oui, nous - - - - faisons.
A) nous B) les
C) la D) leurs
4. **A: Tu téléphones à Julie?**
B: Oui, je - - - - téléphone souvent.
A) le B) la C) leur D) lui
5. **A: Est-ce que quelqu'un parle italien au bureau de poste?**
B: Non, - - - - ne parle italien.
A) rien
B) depuis
C) quelque chose
D) personne
6. **Je déteste les gens - - - - ne disent jamais bonjour.**
A) qui B) ou C) où D) que
7. **Comme il - - - - elle ne sort pas.**
A) neigé B) venu
C) pleut D) plu

8. **A: Je n'aime pas cela.**
B: Dis-moi - - - - tu aimes, alors!
A) ce qui B) ce que
C) depuis D) pour
9. **A: Tu as déjà lu ce roman?**
B: Oui, je l'ai lu - - - - .
A) la semaine prochaine
B) le mois dernier
C) demain
D) après-demain
10. **A: Bernard va au magasin de musique?**
B: Oui, il - - - - va en métro.
A) dans B) en
C) aux D) y
11. **A: Comment vas-tu à l'école, Asya?**
B: J'y vais à vélo mais - - - - il fait froid, j'y vais en voiture.
A) quand
B) parce que
C) qui est-ce qui
D) combien
12. **Madame, votre marie est malade.**
Vous ne lui permettez pas de - - - - .
A) respecter B) vendre
C) acheter D) fumer
13. **A: Vous mangez du yaourt?**
B: Oui, nous - - - - mangeons.
A) en B) du C) des D) y
14. **A: Qu'est-ce qu'un - - - - ?**
B: C'est quelqu'un qui soigne les dents malades.
A) pilote B) médecin
C) vétérinaire D) dentiste

15. **C'est Kıvanç Tatlıtuğ - - - - joue dans le film Kelebeğin Rüyası.**
A) donc B) que
C) qui D) ce que
16. **Sümer Tilmaç, acteur célèbre est - - - - à l'âge de 67 ans.**
A) né B) mort
C) marché D) donné
17. **La pâtissière - - - - des gâteaux, des croissants.**
A) faire B) ai fait
C) fait D) faisais
18. **Paul - - - - passé ses vacances d'hiver en Autriche.**
A) as B) es C) a D) est

19-20. sorularda verilen resme göre doğru ifadenin bulunduğu seçeneği işaretleyiniz.

19.



S'il - - - - elle aime marcher sous son parapluie.

- A) neige B) pleut
C) fait chaud D) fait froid

20.



Il est - - - - .

- A) boucher B) médecin
C) journaliste D) professeur

3. OTURUM

(403) DİL VE ANLATIM – 3

1. Aşağıdakilerden hangisi bir tartışma çeşidi değildir?

- A) Sunum B) Forum
C) Panel D) Münazara

2. Aşağıdaki cümlelerle bir paragraf oluşturulmak istenirse paragrafın ilk cümlesi hangisi olur?

- A) Hatta halk arasında hikâye denince masal akla gelir.
B) Masallar genellikle düz yazı biçimindedir.
C) Halk hikâyeleri ile masallar arasında benzerlikler vardır.
D) Halk hikâyelerinde ise nazım ve nesir iç içedir.

3. Aşağıdaki cümlelerin hangisinde üçüncü kişi anlatımı vardır?

- A) Yusuf yarı kapalı, yumuk gözlerini büsbütün küçülterek nehrin iki kıyısını süzdü.
B) Karşı karşıya oturmuş iki insan, artık yüzlerimizi görmüyor; yalnız seslerimizi duyuyorduk.
C) Ertesi sabah güverteye çıktığımda adanın görünümünü tamamen değişmişti.
D) Birden bu şehirde yabancı olduğumu düşündüm, bütün gördüklerimi ve alışkanlıklarımı unutacaktım.

4. Aşağıdaki cümlelerin hangisinde “anlamları karıştırılan sözcük kullanımı”ndan kaynaklanan bir anlatım bozukluğu vardır?

- A) O yıl bir köy okulunda öğretim gördüm.
B) Bu yol yaya yürümekle bitecek gibi değil.
C) Çocuklarıyla bazen çok bazen de hiç ilgilenmezdi.
D) Kesinlikle söyleyebilirim ki bu tedavi hastayı ayağa kaldıracaktır.

5. Aşağıdaki cümlelerin hangisinde gereksiz sözcük kullanımından kaynaklanan bir anlatım bozukluğu vardır?

- A) Diğer gömlek size daha çok yakıştı.
B) Bu çalışmalar kişiyi iyi bir yazar yapabilir.
C) Herkesin unutamadığı pek çok anısı vardır.
D) Bilimkurgu kitaplarını ara sıra, nadiren okurum.

6. Aşağıdakilerden hangisi diğerlerine göre daha genel bir konudur?

- A) Sanat B) Heykel
C) Bale D) Resim

7. Aşağıda verilen iletişim öğelerinden hangisi “gönderici”yi ifade eder?

- A) İleti B) Bağlam
C) Kanal D) Kaynak

8. Aşağıdakilerden hangisi yapılan bir toplantı sonunda istenilen amaca ulaşılma noktasında değerlendirme yapılırken sorulması gereken sorulardan biri değildir?

- A) Bildiriler bilimsel miydi?
B) Toplantıya çok sayıda izleyici katıldı mı?
C) Konu ile ilgili yararlı kararlar alındı mı?
D) Sorun yeterince açıklığa kavuşturuldu mu?

9. Aşağıdakilerden hangisi sunumu yapacak kişinin dikkat etmesi gerekenlerden biri değildir?

- A) Konuşmasını jest ve mimiklerle desteklemelidir.
B) Eğlendirmeye yönelik bir görünüm sergilemelidir.
C) Önceden sunum yerini görmeli ve prova etmelidir.
D) Kullanacağı malzemenin kontrolünü kendisi yapmalıdır.

10. İş bitmek bilmiyordu. Atları yedir, içir, tımar et, yem hazırla. Sonra yeniden yedir, içir, tımar et, gübrelerini temizle. Sonra yeniden aynı işler... İyileşmek bilmez hastalıkları, yaraları için bölge veterineri her türlü merhemi, ilacı vermişti. Ben de her gün bunları atlara veriyordum. İşlerden iyice yorulmuştum.

Bu parçanın dil ve anlatım özellikleri için aşağıdakilerden hangisi söylenemez?

- A) Somut anlatıma başvurulmuştur.
B) Anlatım nesneldir.
C) Anlatım, gözlemci anlatının bakış açısıyla yapılmıştır.
D) Anlatımda tekrarlardan yararlanılmıştır.

11. Ev sevgisi, maddi bir avuç toprak, bir yığın tahta ve siva sevgisi değildi. Biz evimiz içinde, ailemizi, muhitimizi, ecdadımızı severdik. Bu sevgi ruhumuz için bir sükûnet ve ferahlık, bir inanç ve irade kaynağı teşkil ederdi.

Bu paragrafın konusu aşağıdakilerden hangisidir?

- A) İnanç B) Ferahlık
C) Aile birliği D) Ev sevgisi

12. Konuşma ve yazmada olayı, düşünce ve duyguları olabildiğince az sözcükle anlatmaya verilen ad aşağıdakilerden hangisidir?

- A) Akıcılık B) Özgünlük
C) Özlülük D) Doğruluk

13. Mert dayanır, namert kaçır Meydan gümbür gümbürlerin Şahlar şahı divan açar Divan gümbür gümbürlerin
Köroğlu

Bu şiirin teması aşağıdakilerden hangisidir?

- A) Yiğitlik B) Dostluk
C) Ayrılık D) Ölüm

3. OTURUM

14. "Not almak"la ilgili aşağıdaki ifadelerden hangisi yanlıştır?

- A) Unutmanın önüne geçer.
- B) Bir bilgiyi kâğıda, deftere olduğu gibi geçirmektir.
- C) Rastgele alınan notların değeridir.
- D) Dikkat etmeyi, karar vermeyi öğretir.

15. Ben yazılarımın başka yazarların yazılarına benzemesini istemem. Daha önce söylenenlerden farklı şeyler söylemeyi amaçlarım. İfadelerim, buluşlarım sadece bana ait olmalı.

Böyle söyleyen biri hangi anlatım özelliğine önem vermektedir?

- A) Doğallık
- B) Özgünlük
- C) İnanırcılık
- D) Yetkin olmak

16. Aşağıdaki özelliklerden hangisi mizahi anlatımla ilgili değildir?

- A) Ses, taklit, hareket ve konuşma önemlidir.
- B) Daha çok nesnel cümleler kullanılır.
- C) Amaç okuyucuyu düşündürmek ve eğlendirmektir.
- D) Hikâye, tiyatro, deneme gibi türlerde kullanılır.

17. Aşağıdaki cümlelerin hangisinde anlatım bozukluğu vardır?

- A) Herkesi dışarı çıkarıp odayı temizledi.
- B) Arabasının anahtarını dün burada unutmuş.
- C) Ağaçları güzelce budadı ve su verdi.
- D) Binanın inşaatı tam iki yıldır sürüyor.

18. Aşağıdaki cümlelerin hangisinde dil, göndergesel işlevde kullanılmıştır?

- A) Bahçedeki taşları temizleyip fidanları dikin.
- B) Gitme, ben sensiz ne yaparım buralarda tek başıma.
- C) İzmir – Ankara hızlı tren hattı 2017 hizmete girecek.
- D) Özne ve yüklem, cümlenin temel öğeleridir.

19. Özgür düşünce hem tutucu, gelecekçi hem de özgür olamaz. Nasıl olabilir ki düşünce özgürlüğü eski düşünce kalıplarını kırmanın ta kendisidir. Kendi aklını kullanmayan insan, kitapların en güzeline de inansa özgür düşünemiyor demektir. Bununla birlikte özgür düşünce bütün akıllara başvuran, kendini beğenmeyen, durmadan gelişmek isteyen düşüncenin ta kendisidir.

Bu parçadan "özgür düşünmek" ile ilgili aşağıdaki yargılardan hangisine ulaşamaz?

- A) Toplumların ilerlemesi özgür düşünceli insanlara bağlıdır.
- B) Özgür düşünmek isteyenler yenileşmeye açık olmalıdır.
- C) Sadece kendi aklıyla hareket eden insanlar özgür düşünemez.
- D) Özgür düşünenler, kalıplaşmış düşüncelere karşıdır.

20. Bazı öykücülerin kendi yazdıklarına hiçbir katkıları yoktur. Yazdıklarını başka öykücülerin cümleleriyle, öykü kalıplarıyla anlatırlar. Yazdıklarında yer değişir, isimler değişir; özündeki anlam ise kopya olarak kalır. Oysa bir öykücü önce özgün olmalıdır.

Bu parça aşağıdaki yargılardan hangisiyle tamamlanamaz?

- A) Bir kimseye öykücüdür diyebilmek için başka öykücülerini hatırlatmaması gerekir.
- B) Cümleleriyle, ifadeleriyle farklı bir üslup ortaya koyabilmelidir.
- C) İyi öykücüler, baktıkları olaylarda yalnız kendilerince ortaya çıkarılan ilişkileri görebilmelidir.
- D) Edebiyat dünyasında yaygınlaşan sözlerden, betimlemelerden yararlanmalıdır.

(405) DİL VE ANLATIM – 5

1. Orta oyununun oynandığı yuvarlak veya oval alana verilen ad aşağıdakilerden hangisidir?

- A) Muhavare
- B) Fasil
- C) Mukaddime
- D) Palanga

2. Aşağıdakilerden hangisi öğretici metinlerden biridir?

- A) Destan
- B) Roman
- C) Mektup
- D) Masal

3. Aşağıdakilerden hangisi sanat metinlerinin özelliklerinden değildir?

- A) Kurmaca değil gerçek ön plandadır.
- B) Amaç duyguyu hissettirmektir.
- C) Estetik ön plandadır.
- D) Her okunduğunda farklı yorumlanır.

4. Aşağıdakilerden hangisi gazete çevresinde oluşan metinler arasında yer almaz?

- A) Makale
- B) Deneme
- C) Biyografi
- D) Sohbet

5. Anlamli birden çok dil birliğinin yan yana gelerek yeni bir anlam ifade etmesine - - - - denir.

Bu cümlede boş bırakılan yere aşağıdakilerden hangisi getirilmelidir?

- A) anlam
- B) bağlam
- C) bağdaşıklık
- D) bağdaştırma

6. Aşağıda mektupla ilgili verilen bilgilerden hangisi yanlıştır?

- A) İmza sol alt köşeye atılmalı.
- B) Beyaz, çizgisiz kâğıt kullanılmalı.
- C) Anlatılmak istenenler açık ve kesin ifadelerle anlatılmalı.
- D) Selam ve saygı sözleri mektubun son bölümünde yer almalı.

3. OTURUM

7. Aşağıdakilerden hangisi anlatmaya bağlı edebî metindir?

- A) Dram
- B) Orta oyunu
- C) Halk hikâyesi
- D) Köy tiyatrosu

8. Aşağıdakilerden hangisi günlük (günce) türünün özelliğidir?

- A) Kişisel ve özeldir.
- B) Bilimsel nitelik taşır.
- C) Gazete çevresinde gelişir.
- D) Okuyucu düşünülerek yazılır.

9. Aşağıdakilerden hangisi dilekçe yazarken dikkat edilmesi gereken hususlardan biri değildir?

- A) Anlatım yalın ve duru olmalıdır.
- B) Konular kısa ve öz olarak belirtilmelidir.
- C) Tarih ve isim sol üst köşeye yazılmalıdır.
- D) Hangi kuruma veriliyorsa bu makamın adı başa yazılmalıdır.

10. Aşağıdakilerden hangisi deneme türünün özelliği değildir?

- A) Denemenin sonunda kesin bir yargıya, bir sonuca varılması zorunlu değildir.
- B) Sunulan düşünceler kanıtlanmalıdır.
- C) İnsanı ve toplumu ilgilendiren her şey konu olabilir.
- D) Ele alınan konu içtenlikle anlatılır.

11. Edebiyatımızın en ünlü gezi yazısı örneklerinden olup Evliya Çelebi tarafından yazılan eser aşağıdakilerden hangisidir?

- A) Battalname
- B) Söz Arasında
- C) Seyahatname
- D) Karalama Defteri

12. Aşağıdakilerden hangisi anı türünün özelliklerinden biri değildir?

- A) Günü gününe yazılır.
- B) Öğretici ve bilgi vericidir.
- C) Yaşanmış olayları konu alır.
- D) Anlatılanları kanıtlama ve belgeleme zorunluluğu yoktur.

13. Aşağıdakilerin hangisi Ahmet Haşim'in eserlerinden biridir?

- A) Dünya İşleri
- B) Frankfurt Seyahatnamesi
- C) Dört Köşeli Üçgen
- D) Karalama Defteri

14. Aşağıdakilerden hangisi olay çevresinde gelişen edebî metinlerin özelliklerinden değildir?

- A) Olaylar yoruma açık olmayıp nesnel nitelik gösterir.
- B) Olay örgüsü hayalî olarak düzenlenebilir.
- C) İnsanlara özgü soyut durumlar somutlaştırılır.
- D) Kişi, zaman, mekân gibi öğeler yer alır.

15. Aşağıda "makale yazarı" ile ilgili verilen bilgilerden hangisi yanlıştır?

- A) Dili iyi kullanılmalıdır.
- B) Alanında söz sahibi olmalıdır.
- C) Yazılarında kesin bir sonuca varmalıdır.
- D) Sorunları toplum gözüyle değerlendirmelidir.

16. Bir kimsenin kendi yaşam öyküsünü yazmasıyla oluşan eserlere verilen ad aşağıdakilerden hangisidir?

- A) Nutuk
- B) Makale
- C) Köşe yazısı
- D) Otobiyografi

17. Aşağıdakilerin hangisi haber yazıları için söylenemez?

- A) İlgi çekici olmalıdır.
- B) Günlük ve önemli olması gerekir.
- C) Yazan kişinin görüş ve düşüncelerini yansıtmalıdır.
- D) Toplumun büyük bir kısmını ilgilendirmelidir.

18. Aşağıdaki cümlelerin hangisinde isim tamlaması vardır?

- A) Köye, geçen sene yeni bir okul yapıldı.
- B) Evin içini çocuk sesleri doldurmuş.
- C) Bu inciler, kıyafetine çok yakışmış doğrusu.
- D) Gül, bir iki gün su vermeyince solmuş.

19. Aşağıdakilerin hangisinde boş bırakılan yere "da, de" getirildiğinde bağlaç görevinde kullanılır?

- A) Ayak ... durmak ona zor geldi.
- B) Yüzüm gülüyor ama kalbim ... hüznün var.
- C) Sokağa tedbirsiz çıktığımızdan yağmur ... ıslandık.
- D) Sizin ... bizim gibi düşündüğünüzü sanıyordum.

20. Aşağıdakilerin hangisinde eş anlamlı sözcükler bir arada kullanılmıştır?

- A) Eskiden okula mektep denirdi.
- B) Aydınlık yarınlara doğru gidiyoruz.
- C) Gürültülü bir ortamda çalışıyormuş.
- D) Hayat, sevinç ve üzüntülerle doludur.

3. OTURUM

(406) DİL VE ANLATIM – 6

1. Zamanın ünlü kişilerini herhangi bir gazetecinin ziyaret etmesi ve ona alanıyla ilgili sorular sorarak sorularına cevap almasına - - - - denir.

Bu cümlede boş bırakılan yere aşağıdakilerden hangisi getirilmelidir?

- A) söylev B) makale
C) mülakat D) deneme

2. Aşağıdakilerden hangisi söylevin temel amacıdır?

- A) Konu hakkında dinleyenlere bilgi vermek
B) Dinleyenleri kendi düşüncesinden yana çekmek
C) Konuyu çarpıtmadan belgesel olarak dinleyenlere sunmak
D) Toplumunu ilgilendiren bir düşüncüyü geniş halk kitlelerine yaymak

3. Röportaj için aşağıdakilerden hangisi söylenemez?

- A) Öğretici, açıklayıcı, betimleyici vb. anlatım türlerinden yararlanır.
B) Bir yeri, eşyayı veya insanı konu alan röportaj yazılabilir.
C) Yazarın bir konu hakkındaki düşüncelerini açıklayan kısa yazı türüdür.
D) Okuyucunun dikkatini çekecek biçimde düzenlenir.

4. Aşağıdakilerin hangisi sözlü anlatım türlerinden biridir?

- A) Biyografi B) Röportaj
C) Makale D) Deneme

5. Aşağıdakilerden hangisi mülakat yapan kişinin yapması gereken davranışlardan biri değildir?

- A) Kendi görüş ve düşüncelerine yazıda yer vermek
B) Konuşacağı kişi ve konu hakkında bilgi edinmek
C) Mülakat yapacağı kişiden görüşme zamanını belirlemesini istemek
D) Hep kendi konuşarak karşısındaki kişiyi sıkmamak

6. — Bir baskıdan sonra aynı eserin diğer baskılarında konu veya teknik bakımdan değişiklik yaptınız mı?

— Çok nadir. Değiştirdiğim olmamıştır. Bir kelime belki. Hatta bu sorunuza ilk hikâyelerimin dili dışında, hiç cevabını da verebilirim.

Bu metnin türü aşağıdakilerden hangisidir?

- A) Mülakat B) Deneme
C) Otobiyografi D) Gezi yazısı

7. “Dilin alıcıyı harekete geçirme işlevi” ve “heyecana bağlı işlevi” **aşağıdaki türlerin hangisinde daha çok kullanılır?**

- A) Eleştiri B) Söylev
C) Deneme D) Makale

8. Aşağıdakilerden hangisi “söylevci” anlamına gelir?

- A) Muhabir B) Mürşit
C) Muharrir D) Hatip

9. Aşağıdakilerden hangisi Yaşar Nabi Nayır’a ait röportaj türünde bir eserdir?

- A) Bugün de Diyorlar ki
B) Edebiyatçılarımız Ne Diyorlar
C) Ustalarla Konuşmalar
D) Edebiyatçılarımız Konuşuyor

10. Aşağıdakilerden hangisi röportajın özelliklerinden biri değildir?

- A) Derinlemesine inceleme ve araştırma yapılıır.
B) Çeşitli ses kayıtları, belge ve fotoğraflarla tamamlanır.
C) Röportaj yapan kişi gördükleri ve duyduklarıyla yetinmelidir.
D) Ele alınan konu toplumu ilgilendirmelidir.

11. Aşağıdakilerden hangisi Necmi Onur’a ait röportaj türünde bir eserdir?

- A) Bu Diyar Baştan Başa
B) Doğudan Gezi Notları
C) Ha Bu Diyar
D) Telsiz Duvaksız Anadolu

12. Aşağıdakilerden hangisi röportajın özelliklerinden biri değildir?

- A) Amaç, konuyu çarpıtmadan belgesel olarak okuyucuya sunmaktır.
B) Tek bir yazı ya da yazı dizisi olabilir.
C) Nesnel anlatım hâkimdir.
D) Yüz yüze ya da yazılı şekilde yapılabilir.

13. Aşağıda mülakatla ilgili verilen bilgilerden hangisi yanlıştır?

- A) Mülakat için önceden randevu alınmalıdır.
B) Alınan cevaplar değiştirilebilir.
C) Sorular açık ve net olmalıdır.
D) Ayrıntıya girmekten kaçınılmalıdır.

14. (I) Röportajlarda derinlemesine bir inceleme ve araştırma yapmaya gerek yoktur. (II) Ele alınan konular toplumu ilgilendiren olay ve olgulardır. (III) Bu olaylar okuyucunun dikkatini çekecek biçimde anlatılmalıdır. (IV) Röportajlarda öğretici, açıklayıcı, kanıtlayıcı, betimleyici vb. anlatım türlerinden yararlanılabilir.

Bu parçada numaralanmış cümlelerin hangisinde yanlış bir bilgi verilmiştir?

- A) I. B) II. C) III. D) IV.

15. Kişinin anlattıklarının ve söylediklerinin bir önceki anlattıkları ve söyledikleriyle çelişmemesine verilen ad aşağıdakilerden hangisidir?

- A) Yalınlık B) Özlülük
C) Açıklık D) Tutarlılık

16. Aşağıdakilerden hangisi söylevin özelliklerinden biri değildir?

- A) Dinleyicilerin ilgisini çekecek cümlelerle başlanmalıdır.
B) Ses aşırı yükseltilmeli ve abartılı sözler kullanılmalıdır.
C) Ele alınan konu açık ve inandırıcı biçimde ortaya konmalıdır.
D) Vurgu ve tonlamaya dikkat edilmelidir.

3. OTURUM

17. Aşağıdakilerden hangisi Fransız edebiyatı söylevcilerinden değildir?

- A) Robespire B) Cicero
C) Mirabeau D) Bossuet

18. Türk siyaset tarihinin en iyi hatiplerinden birisi aşağıdakilerden hangisidir?

- A) Tefik Fikret
B) Ömer Naci
C) Mustafa Kemal Atatürk
D) Osman Yüksel Serdengeçti

19. Aşağıdakilerden hangisi Türk edebiyatı söylev yazarlarından biri değildir?

- A) Behçet Kemal Çağlar
B) Süleyman Nazif
C) Rıza Tevfik Bölükbaşı
D) Ahmet Mithat Efendi

20. Ey Türk Gençliği! Birinci vazifen, Türk istiklâlini, Türk Cumhuriyetini, ilelebet, muhafaza ve müdafaa etmektir. Mevcudiyetinin ve istikbalinin yegâne temeli budur. Bu temel, senin, en kıymetli, hazinendir.

Bu metin aşağıdaki türlerin hangisinden alınmıştır?

- A) Söylev B) Mülakat
C) Deneme D) Söyleşi

(413) TÜRK EDEBİYATI – 3

1. Bir ulusun yüzyıllar içinde meydana getirdiği edebî eserleri kronolojik bir sırayla inceleyen bilim dalı, aşağıdakilerden hangisidir?

- A) Felsefe
B) Filoloji
C) Toplum bilim
D) Edebiyat tarihi

2. Halk edebiyatındaki “koşma”nın ilk biçimi aşağıdakilerden hangisidir?

- A) Sagu B) Sav
C) Koşuk D) Şarkı

3. Aşağıdakilerden hangisi İslamiyet’in kabulünün Türk diline etkilerinden biridir?

- A) Millî değerlerin büyük ölçüde korunması
B) Arapça ve Farsçadan çok sayıda sözcük alınması
C) Uygur alfabesinin kullanılmaya başlanması
D) Latin alfabesine dayanan Türk alfabesine geçilmesi

4. Aşağıdakilerden hangisi Batı etkisinde gelişen Türk Edebiyatı bölümlerinden değildir?

- A) Fecriâtî edebiyatı
B) Tanzimat edebiyatı
C) Anonim halk edebiyatı
D) Cumhuriyet Dönemi Türk edebiyatı

5. Alp Er Tunga öldü mü
Geçici dünya kaldı mı
Felek öcünü aldı mı
Şimdi yürek yırtılır

Bu dördükte soru sorma sanatından faydalanılmasının amacı aşağıdakilerden hangisidir?

- A) Alp Er Tunga'nın ölümü hakkında bilgi almak
B) Soru sorarak olanlardan habersiz olduğunu göstermek
C) Ölüm karşısındaki şaşkınlık duygusunu kuvvetlendirmek
D) Gelişmeleri sırasıyla öğrenmek

6. Yoksul kişi eline geçen şeyin iyisine kötüsüne bakmaz. Varlıklı kişi ise en güzel şeylerde bile kusur bulur, çekinmeden her şeyi söyler.

Bu parçada anlatılanları özetleyen atasözü aşağıdakilerden hangisidir?

- A) Açın uykusu gelmez.
B) Aç kurt yavrusunu yer.
C) Aç karın katık istemez.
D) Aç ne yemez, tok ne demez.

7. Aşağıdakilerden hangisi İslamiyet öncesi sözlü edebiyat ürünlerinden biri değildir?

- A) Sagu B) Mâni
C) Koşuk D) Destan

8. Keldi esin esneyü (Yel eserek geldi)
Kadga tükel üzneyü (Tıpkı tipiye benziyor)
Kirdi budun kasnayu (İnsanlar üşüyerek ürperiyor)
Kara bulıt kükreşir (Kara bulut kükreşir)

Bu koşuk parçasının konusu aşağıdakilerden hangisidir?

- A) Aşk B) Tabiat
C) Özlem D) Kahramanlık

9. Aşağıdaki destan - yazar eşleştirmelerinden hangisi yanlıştır?

- A) Ökkeşin Destanı - Fazıl Hüsnü Dağlarca
B) Bozkurtların Destanı - N. Y. Gençosmanoğlu
C) Kolları Bağlı Odysseus - Melih Cevdet Anday
D) Sakarya Meydan Savaşı - Ceyhun Atuf Kansu

10. Türk ulusunun uzun geçmişi boyunca biriktirdiği hayat deneyimlerini içeren özlü sözlerin İslamiyet Öncesi Sözlü Edebiyat Dönemi'ndeki adı aşağıdakilerden hangisidir?

- A) Sagu B) Koşuk
C) Sav D) Risale

3. OTURUM

11. Gılgamış destanı ile ilgili aşağıda verilen bilgilerden hangisi yanlıştır?

- A) Uygur Türklerine ait bir destandır.
- B) Akad dilinde yazılmıştır.
- C) İÖ 3 binlerde Mezopotamya'da doğmuş ve bilinen en eski destandır.
- D) Ölümsüzlük otunu arayan Gılgamış ile arkadaşı Enkidu'nun öyküsü anlatılır.

12. Aşağıdakilerden hangisi Türk boyları arasında eski Türk şairlerine verilen isimlerden değildir?

- A) Ozan
- B) Şaman
- C) Kopuz
- D) Baksı

13. Yunan sitelerinin Troya şehrini ele geçirmek için giriştikleri savaşları anlatan destan aşağıdakilerden hangisidir?

- A) Odysseia
- B) Su
- C) Gılgamış
- D) Siyenpi

14. Aşağıdakilerden hangisi Destan Dönemi Türk edebiyatının özelliklerinden sayılamaz?

- A) Yabancı etkilerden uzak, yerli bir edebiyattır.
- B) Nazım birimi dördlüktür.
- C) Sade bir dili olan eserlerde hece ölçüsü kullanılmıştır.
- D) Eserlerde soyut ve dinsel konular işlenmiştir.

15. İslamiyet Öncesi Türk Edebiyatı'yla ilgili olarak aşağıdaki bilgilerden hangisi yanlıştır?

- A) Sözlü ve yazılı olmak üzere iki koldan gelişmiştir.
- B) Orta Asya coğrafyasındaki bir dönemdir.
- C) Başlangıcı kesin tarihlerle belirlenememektedir.
- D) 13. yüzyıla kadar sürmüştür.

16. Eski Türkler - - - isimli sazla şiirler söylemişlerdir.

Bu cümledeki boşluğa aşağıdakilerden hangisi gelirse cümlede verilen bilgi doğru olur?

- A) cura
- B) kopuz
- C) tar
- D) bağlama

17. Orhun Yazıtları'yla ilgili olarak aşağıdakilerden hangisi söylemez?

- A) Tarihte "Türk" sözcüğünün geçtiği ilk metinlerdir.
- B) Bilge Kağan'ın hükümdarlığı sırasında dikilmiş yazıtlardır.
- C) Yazıtlarda Türkçe söz dizimi günümüzdeki şekliyle özne - tümleç - yüklem biçimindedir.
- D) Uygur alfabesiyle yazılan üç anıttan oluşmaktadır.

18. Türkler, Uygur alfabesinden sonra aşağıdaki alfabelerden hangisini kullanmaya başlamışlardır?

- A) Latin
- B) Arap
- C) Göktürk
- D) Kiril

19. Türkçenin zenginliğini ve benzersiz anlatım gücünü ortaya koyan eserlerden biri olan Göktürk (Orhun) Yazıtları'nın metnini çözerken okuyan ilk bilim adamı aşağıdakilerden hangisidir?

- A) W. Thomsen
- B) Homeros
- C) W. Banq
- D) G. Doerfer

20. Aşağıdakilerden hangisi Türk edebiyatının dönemlere ayrılmasında göz önünde bulunmamıştır?

- A) Toplum psikolojisi
- B) Kültür farklılaşması
- C) Dil anlayışı
- D) Dinî hayat

(416) TÜRK EDEBİYATI – 6

1. Aşağıdakilerden hangisi Servetifünun edebiyatının özelliklerinden değildir?

- A) Ağır bir dil kullanılmış, konuşma dilinde hiç bulunmayan kelimeler tercih edilmiştir.
- B) Şiirde hece ölçüsü kullanılmıştır.
- C) Kulağa göre kafiye anlayışı benimsenmiştir.
- D) Hikâye ve romanlarda realizm akımının etkisinde kalınmıştır.

2. Aşağıdakilerin hangisinde Tevfik Fikret'le ilgili bir bilgi yanlıştır?

- A) Divan edebiyatındaki beyit anlayışını kırarak nazmı nesre yaklaştırdı.
- B) İlk şiirlerinde bireysel konuları işlerken son şiirlerinde toplumsal konuları işlemiştir.
- C) Kullandığı güçlü roman tekniği ve anlatımıyla başarılı romanlar kaleme aldı.
- D) Batı edebiyatlarında görülen sone, terzarima gibi nazım biçimlerini kullandı.

3. Servetifünun edebiyatının öncüsü ve kurucusu sayılan sanatçı aşağıdakilerden hangisidir?

- A) Namık Kemal
- B) Şinasi
- C) Recaizade Mahmut Ekrem
- D) Halit Ziya Uşaklıgil

4. Edebiyat hayatına bir bildiriyle girdiler. "Sanat şahsi ve muhteremdir." ilkesiyle hareket ettiler. Ancak aşırı ferdiyetçilikleri ve tabii olmayan dil ve üslup anlayışlarından dolayı eleştirildiler.

Bu parçada tanıtılan topluluk aşağıdakilerden hangisidir?

- A) Yedi Meşaleciler
- B) Edebiyatıcedide
- C) Fecriâti topluluğu
- D) Millî Edebiyatçılar

3. OTURUM

5. Aşağıdaki eser-yazar eşleştirmelerinden hangisi yanlıştır?

- A) Tiryaki Sözleri - Cenap Şehabettin
- B) Kırk Yıl - Halit Ziya Uşaklıgil
- C) Kösem Sultan - Tahsin Nahit
- D) Eylül - Mehmet Emin Yurdakul

6. Millî Edebiyat ve Cumhuriyet Dönemi yazarlarımızdandır. Kurtuluş Savaşı yıllarında onbaşı ve çavuş rütbe-leriyle ordu hizmetinde bulundu. Hikâye, roman ve anı türlerinde eserler verdi. Aşk, bireysel tutkular, kadın psikolojisi ve duyarlılığını işledi. "Ateşten Gömlek, Vurun Kahpeye, Türk'ün Ateşle İmtihanı" eserleri arasındadır.

Bu parçada sözü edilen yazar aşağıdakilerden hangisidir?

- A) Halide Edip Adıvar
- B) Reşat Nuri Güntekin
- C) Kenan Hulusi Koray
- D) Ahmet Hamdi Tanpınar

7. Aşağıdakilerden hangisi "Beş Hececiler" adıyla anılan topluluk içinde yer almamıştır?

- A) Faruk Nafiz Çamlıbel
- B) Halit Fahri Ozansoy
- C) Emin Bülent Serdaroğlu
- D) Yusuf Ziya Ortaç

8. Aşağıdaki sanatçılardan hangisinin tiyatro türünde bir eseri yoktur?

- A) Ahmet Haşim
- B) Cenap Şehabettin
- C) Halit Ziya Uşaklıgil
- D) Rezaizade Mahmut Ekrem

9. Aşağıdakilerden hangisi, Tevfik Fikret'in sade bir dille çocuklar için yazdığı kitaptır?

- A) Şermin
- B) Rubab'ın Cevabı
- C) Rubâb-ı Şikeste
- D) Halûk'un Defteri

10. Şiirlerinde Anadolu insanının duygularını işledi. "Çamdeviren", "Deli Ozan" gibi takma isimlerle mizah şiirleri yazdı. "Han Duvarları, Çoban Çeşmesi, Akın" eserlerinden birkaçıdır.

Bu parçada söz edilen şairimiz aşağıdakilerden hangisidir?

- A) Mehmet Âkif Ersoy
- B) Cahit Külebi
- C) Ahmet Hamdi Tanpınar
- D) Faruk Nafiz Çamlıbel

11. Fecriâtî, aşağıdaki edebî dönemlerden hangisinin devamı niteliğindedir?

- A) Divan
- B) Tanzimat
- C) Millî Edebiyat
- D) Servetifünun

12. Millî Edebiyat, Selanik'te çıkarılan - - - - dergisi etrafında toplanan gençlerin oluşturduğu edebiyattır.

Bu cümlede boş bırakılan yere aşağıdakilerden hangisi getirilmelidir?

- A) Türk Derneği
- B) Servet-i Fünûn
- C) Genç Kalemler
- D) Musavver Malumât

13. Mehmet Rauf'un yazdığı "Siyah İnciler" adlı eserin türü, aşağıdakilerden hangisidir?

- A) Roman
- B) Hikâye
- C) Tiyatro
- D) Mensur şiir

14. Aşağıdakilerden hangisi Ömer Seyfettin'e ait bir eser değildir?

- A) Yüksek Ökçeler
- B) Kiralık Konak
- C) Yalnız Efe
- D) Bomba

15. Aşağıdaki hareketlerden hangisi Millî Edebiyat akımının oluşmasında daha etkili olmuştur?

- A) İslamcılık
- B) Türkçülük
- C) Batıcılık
- D) Osmanlıcılık

16. Realizm akımının şiirdeki yansımaları aşağıdakilerden hangisidir?

- A) Romantizm
- B) Parnasizm
- C) Sembolizm
- D) Klasisizm

17. Servetifünun şairlerinden Ali Ekrem Bolayır'ın edebî görüşlerini ifade ettiği uzun makalesi aşağıdakilerden hangisidir?

- A) Şiirimiz
- B) Viyana
- C) Fûrûzan
- D) Nemide

18. "Mauppassant tarzı" öykücülüğünün Türk edebiyatındaki temsilcisi aşağıdakilerden hangisidir?

- A) Ömer Seyfettin
- B) Refik Halit Karay
- C) Reşat Nuri Güntekin
- D) Ali Canip Yöntem

19. Aşağıdakilerin hangisinde eser-yazar eşleştirmesi yanlış yapılmıştır?

- A) Kızıl Elma-Ziya Gökalp
- B) Handan-Mehmet Rauf
- C) Eğil Dağlar-Yahya Kemal Beyatlı
- D) Aşk-ı Memnu-Halit Ziya Uşaklıgil

20. Hikâye, roman ve anı türünde eserler verdi. İlk aşk teması üzerinde durdu. Bireysel tutkuları, kadın psikolojisini ve duyarlılığını işledi. Kurtuluş Savaşı yıllarında kendini ulusal temalara verdi. "Mor Salkımlı Ev", "Sonsuz Panayır" eserlerinden bazılarıdır.

Bu parçada tanıtılan yazar aşağıdakilerden hangisidir?

- A) Falih Rıfkı Atay
- B) Mehmet Akif Ersoy
- C) Halide Edip Adıvar
- D) Reşat Nuri Güntekin

3. OTURUM

(426) FİZİK – 6

1. **Kara cisim ışıması ile ilgili;**
 I- Cismin sıcaklığından dolayı etrafına yaydığı elektromanyetik ışımadır.
 II- Cismin sıcaklığı ile ışımanın dalga boyu ters orantılıdır.
 III- Elektromanyetik spektrumda kızıl ötesi bölgesinden mor ötesi bölgeye kaymaktadır.

- ifadelerinden hangileri doğrudur?
 A) Yalnız I B) I ve II
 C) II ve III D) I, II ve III

2. **30 °C ölçülen bir cismin sıcaklığı kaç °K dir?**

- A) 303 B) 273
 C) 243 D) 213

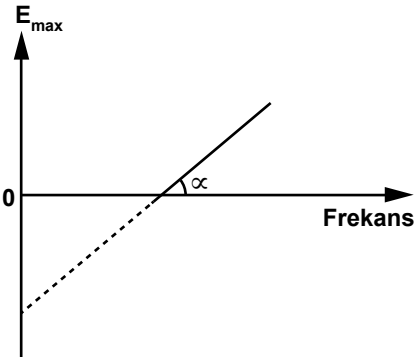
3. **Dalga boyu $3,31 \cdot 10^{-17}$ m olan bir fotonun enerjisi kaç J'dür? ($h = 6,62 \cdot 10^{-34}$ j.s, $c = 3 \cdot 10^8$ m/s)**

- A) $6 \cdot 10^{-9}$ B) $5 \cdot 10^{-9}$
 C) $4 \cdot 10^{-9}$ D) $3 \cdot 10^{-9}$

4. **1 eV kaç Joule'dür?**

- A) $32 \cdot 10^{-19}$ B) $16 \cdot 10^{-19}$
 C) $1,6 \cdot 10^{-19}$ D) $0,8 \cdot 10^{-19}$

5. Fotoelektrik olayda bir metale ait fotoelektronların maksimum kinetik enerjisi ile frekansı arasındaki grafik şeklindeki gibidir.



- Buna göre grafiğin eğimi aşağıdakilerden hangisini verir?

- A) h (planck sabiti)
 B) ν_0 (eşik frekansı)
 C) λ_0 (eşik dalga boyu)
 D) E_0 (bağlanma enerjisi)

6. **Compton olayında;**
 I- enerji
 II- momentum
 III- hız
niceliklerinden hangileri korunur?

- A) Yalnız I B) I ve II
 C) II ve III D) I, II ve III

7. **Atomun yapısında proton ve elektronun bulunduğunu söyleyen ve üzümli keke benzetilen atom modeli aşağıdakilerden hangisidir?**

- A) Rutherford B) Thomson
 C) Bohr D) Dalton

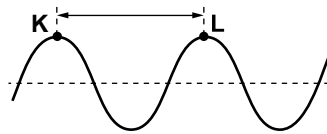
8. **Baş kuantum sayısı $n=2$ olan bir atomun alt kabuk sayısı kaçtır?**

- A) 1 B) 2 C) 3 D) 4

9. **Atomlar;**
 I- Isıtılarak
 II- Elektronlarla
 III- Soğutularak
yöntemlerinden hangileri ile uyarılabilir?

- A) Yalnız I B) I ve II
 C) II ve III D) I, II ve III

10. **Bir ses kaynağından çıkan ses dalgası şeklindeki gibidir.**



- K ve L noktaları ses dalgasının tepe noktaları olduğuna göre K-L arasındaki uzaklık aşağıdakilerden hangisi ile ifade edilir?**

- A) Genlik B) Hız
 C) Periyot D) Dalga boyu

11. **Aşağıdaki birimlerden hangisi ses şiddeti birimi olarak kullanılır?**

- A) Hz B) m/s
 C) dB D) cd

12. **Bir kişi ses kaynağından uzaklaştığında ve ses kaynağına yakınlaştığında kaynağın frekansını farklı algılar.**

- Bu durum aşağıdakilerden hangisi ile ifade edilir?**

- A) Rezonans
 B) Süpersonik hız
 C) Doppler olayı
 D) Fotoelektrik olay

13. **Aşağıdakilerden hangisi ses dalgalarıyla çalışan bir cihazdır?**

- A) dinamometre
 B) elektroskop
 C) termometre
 D) ultrason

14. **Aşağıdakilerden hangisi doğal ışık kaynağıdır?**

- A) ay B) fosfor
 C) akkor lamba D) gaz lambası

15. **Aşağıdakilerden hangisi yarı saydam cisimdir?**

- A) tahta B) beton
 C) duvar D) buzlu cam

16. **Işık kaynağından r kadar uzaklıkta aydınlanma E kadardır.**

- Buna göre, ışık kaynağından $2r$ uzaklıktaki aydınlanma kaç E 'dir?**

- A) $\frac{1}{4}$ B) $\frac{1}{2}$ C) 2 D) 4

17. **Paralaksı $0,1$ açısaniye olan yıldızın Güneş'e olan uzaklığı kaç parsek'tir?**

- A) 5 B) 10 C) 20 D) 30

3. OTURUM

18. Güneş'e en yakın gezegen aşağıdakilerden hangisidir?

- A) Satürn B) Venüs
C) Merkür D) Neptün

19. I- Radyo gök ada
II- Seyfert gök ada
III- Yıldızsılar gök ada

Yukarıdakilerden hangileri aktif gök ada olarak adlandırılır?

- A) Yalnız I B) I ve II
C) II ve III D) I, II ve III

20. 29000 °K sıcaklığa sahip bir yıldızın en yoğun ışınım gerçekleştiği dalga boyu kaç nm'dir?
(Wien sabiti = $2,9 \cdot 10^6 \text{ nm} \cdot \text{°K}$)

- A) 100 B) 200 C) 300 D) 400

(427) FİZİK – 7

1. Isı ile ilgili aşağıdakilerden hangisi doğrudur?

- A) Termometre ile ölçülür
B) Dinamometre ile ölçülür.
C) Bir tür enerjidir.
D) Birimi derecedir.

2. Suyun donma sıcaklığı celsius termometresinde 0 °C iken fahrenheit termometresinde kaç °F'dir?

- A) 16 B) 32 C) 48 D) 64

3. Isı enerjisi;

- I- İletim
II- Konveksiyon
III- Işıma

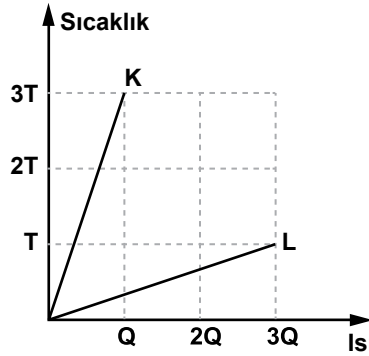
yollarından hangileri ile yayılır?

- A) Yalnız I B) I ve II
C) II ve III D) I, II ve III

4. Sıcaklığı 10 °C olan bir miktar su ile sıcaklığı 13 °C olan bir miktar su karıştırılıyor. Isı kaybı olmadığına göre, denge sıcaklığı kaç °C olabilir?

- A) 14 B) 12 C) 10 D) 9

5. Kütleleri eşit olan K ve L maddelerine ait ısı-sıcaklık grafiği şekildedeki gibidir.



Buna göre, maddelerin öz ısıları oranı C_K/C_L kaçtır?

- A) $\frac{1}{9}$ B) $\frac{1}{3}$ C) 3 D) 9

6. 10 saniyede 150 devir yapan bir motor pervanesinin frekansı kaç s^{-1} dir?

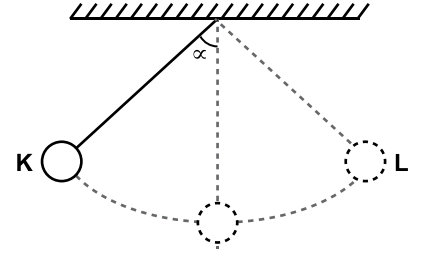
- A) 3 B) 5 C) 7 D) 15

7. Yarıçapı 1m olan ipin ucuna bir taş bağlanarak yatayda düzgün çembersel hareket yapacak şekilde döndürülüyor.

Bir tam turu 2 saniyede yaptığına göre, çizgisel sürati kaç m/s'dir? ($\pi = 3$ alınız)

- A) 2 B) 3 C) 4 D) 5

8. Uzunluğu 10 cm olan ipin ucuna bir cisim bağlanarak şekildeki gibi tavana asılmıştır.



Cisim denge konumundan α açısı kadar açılarak bırakıldığında K-L arasında basit harmonik hareket yapar.

Buna göre, cismin periyodu kaç saniyedir?
($g = 10 \text{ m/s}^2$, $\pi = 3$ alınız.)

- A) 0,9 B) 0,8
C) 0,7 D) 0,6

9. Yay sabitleri 40 N/m ve 60 N/m olan eşit boydaki iki yay seri olarak birbirlerine bağlanıyor.

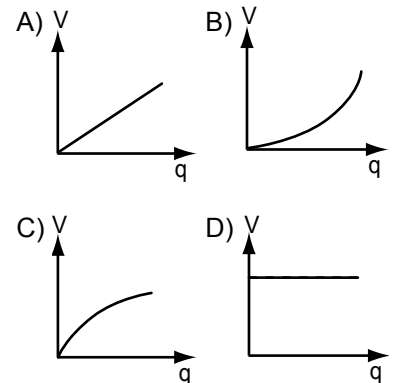
Buna göre, sistemin yay sabiti kaç N/m olur?

- A) 12 B) 18 C) 24 D) 36

10. Aşağıdakilerden hangisi alternatif akım kaynağıdır?

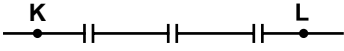
- A) Pil B) Jeneratör
C) Sığaç D) Akümülatör

11. Bir sığacın uçları arasındaki potansiyelinin (V) üzerinde toplanan yüke (q) bağlı değişim grafiği aşağıdakilerden hangisi olabilir?



3. OTURUM

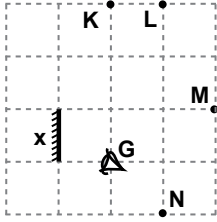
12. Şekildeki sığaçların herbirinin değeri $4 \mu F$ dir.



Buna göre, K-L arasındaki eş değer sığa kaç μF dir?

- A) $\frac{1}{3}$ B) $\frac{2}{3}$ C) 1 D) $\frac{4}{3}$

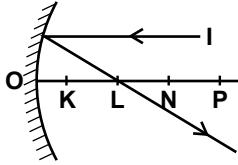
13. Eşit karelere bölünmüş şekildeki düzlemde G noktasında bulunan gözlemci x düz aynasına bakıyor.



Buna göre gözlemci hangi noktaların görüntüsünü düz aynada görebilir?

- A) K ve L B) M ve N
C) L ve M D) K, L ve M

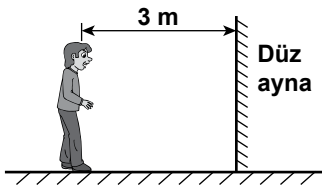
14. Şekildeki çukur aynada asal eksen üzerindeki noktalar arası eşit uzaklıktadır. Asal eksene paralel gelen I ışık ışını şekildeki yolu izliyor.



Buna göre, aynanın odağı hangi noktadır?

- A) K B) L C) N D) P

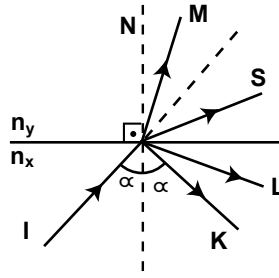
15. Ali düz aynadan 3 m uzakta durup aynadaki görüntüsüne bakıyor.



Buna göre Ali'nin görüntüsü kendisinden kaç m uzakta oluşur?

- A) 1,5 B) 3 C) 4 D) 6

16. Kırıcılık indisleri farklı x ortamından bir I ışık ışını şekildeki gibi y ortamına gönderiliyor.



Buna göre, ışık ışını hangi yolu izlemez?


- A) M B) S C) L D) K

17. Cam prizmaya gönderilen beyaz ışık kırılarak renklere ayrılıyor.

Buna göre, aşağıdaki renklerden en az kırılanı hangisidir?

- A) Sarı B) Mavi
C) Yeşil D) Mor

18. İskelede oturmakta olan Ömer, 4 m derinlikte yüzmekte olan balığa bakıyor.



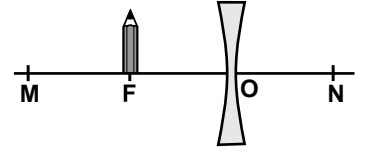
Havanın kırıcılık indisi 1, suyun kırıcılık indisi $\frac{4}{3}$ olduğuna göre, Ömer balığı su yüzeyinden kaç m derinde görür?

- A) 1 B) 2 C) 3 D) 4

19. Hastanelerde kemik ve iç organlarımızın görüntülenmesi olarak ifade edilen röntgen filmi çekilirken aşağıdaki elektromanyetik dalgalardan hangisi kullanılır?

- A) X-ışınları
B) Radyo dalgaları
C) Mikrodalgalar
D) Kızıl ötesi ışınlar

20. Şekildeki kalın kenarlı merceğin odak noktası F olup noktalar arası eşit uzaklıktadır.



Buna göre F noktasına şekildeki gibi konulan bir kalemin görüntüsü nerde oluşur?

- A) F - O arasında
B) O - N arasında
C) M - F arasında
D) M'de

(428) FİZİK - 8

1. X ışınlarını ilk olarak bulan bilim insanı aşağıdakilerden hangisidir?

- A) William Lawrance Bragg
B) Wilhelm Conrad Röntgen
C) Charles Glover Barkla
D) Max Von Laue

2. Yükü $1,6 \cdot 10^{-19}$ C olan bir elektron X ışınları tüpünde ivmelendirilmiş hareket yapmaktadır.

Oluşan X ışınlarının enerjisi $32 \cdot 10^{-19}$ Joule olduğuna göre, hızlandırıcı gerilim kaç Volt'tur?

- A) 8 B) 16 C) 20 D) 24

3. Aşağıdakilerden hangisi X-ışınları ile ilgili bir özellik değildir?

- A) Işık hızı ile yayılırlar.
B) Enerjileri çok yüksektir.
C) Çok kısa dalga boyuna sahiptirler.
D) Sadece maddesel ortamda yayılırlar.

3. OTURUM

4. Atom veya atom gruplarının düzenli olup olmamalarına göre katı maddeler kristal ve amorf yapılı olmak üzere ikiye ayrılırlar.

Buna göre, aşağıdakilerden hangisi kristal maddelere örnek olabilir?

- A) Tuz B) Cam
C) Pamuk D) Lastik

5. Metaller ile ametaller arasında oluşan kimyasal bağın adı nedir?

- A) Kovalent B) İyonik
C) Metalik D) Hidrojen

6. Aşağıdaki iletkenlerden hangisi yarı iletken maddedir?

- A) Civa B) Çinko
C) Kurşun D) Silisyum

7. Kütle numarası 56, atom numarası 26 olan bir elementin nötron sayısı kaçtır?

- A) 30 B) 25 C) 20 D) 15

8. Çekirdekleri kararlı olmayan radyoaktif elementler bozunmaya uğrayarak kararlı hale gelirler. Kararlı hale gelirken de ışımaya yaparlar.

I- Elektrik ve manyetik alandan etkilenmezler.

II- Manyetik alanda saparlar.

III- Fotoğraf filmine etki ederler.

özelliklerinden hangileri Gama ışınının özelliklerindedir?

- A) Yalnız I B) I ve II
C) I ve III D) I, II ve III

9. 6 gram gelen radyoaktif bir madde 3 kez bozunduğunda kaç gram gelir?

- A) 0,50 B) 0,75
C) 1 D) 1,25

10. İsviçre Fransa sınırında yer alan Avrupa ülkelerinin ortak olarak inşa ettikleri yerin 100 m altında ve 27 km uzunluğundaki parçacık fiziği laboratuvarının ismi aşağıdakilerden hangisidir?

- A) DESY B) SLAC
C) CERN D) DRAG

11. 1 MeV kaç eV'tur?

- A) 10^6 B) 10^5
C) 10^4 D) 10^3

12. Zayıf çekirdek kuvvetleri aracılığıyla etkileşime giren atom altı parçacık aşağıdakilerden hangisidir?

- A) Leptonlar B) Fotonlar
C) Hadronlar D) Baryonlar

13. Aşağıdakilerden hangisi leptonların çeşitlerinden değildir?

- A) Elektron B) Nötrino
C) Pion D) Müon

14. I- Mezonlar
II- Baryonlar
III- Fotonlar

Yukarıdakilerden hangileri hadronların sınıflandırılması içindir?

- A) Yalnız I B) I ve II
C) II ve III D) I, II ve III

15. I- Dalton atom modeli
II- Thomson atom modeli
III- Rutherford atom modeli

Yukarıdakilerden hangileri tüm bilim insanları tarafından literatüre girmiş ve bir dönem kabul edilmiş atom modelidir?

- A) Yalnız I B) I ve II
C) II ve III D) I, II ve III

16. • Atom, çekirdek ve elektronlar olmak üzere iki bölümden oluşur.
• Kütlelerin tamamına yakını çekirdekte toplanmıştır.
• Elektronlar çekirdeğin etrafında dairesel dolanırlar.

Yukarıda, özellikleri verilen atom modeli aşağıdakilerden hangisidir?

- A) Thomson B) Rutherford
C) Democritus D) Dalton

17. Parçacık fiziği üzerine yapılan araştırma merkezlerinden Desy hangi ülke sınırları içindedir?

- A) İngiltere B) Amerika
C) Almanya D) Fransa

18. I- Mısırlılar
II- Babiller
III- Akadlar

Yukarıdaki medeniyetlerden hangileri bilimle uğraşmıştır?

- A) Yalnız I B) I ve II
C) II ve III D) I, II ve III

19. Aşağıdaki ölçümlerden hangisi nitel gözleme örnek olabilir?

- A) Bu gün hava çok soğuk.
B) Okul ile ev arası 100 metredir.
C) Deniz suyunun sıcaklığı 25°C dir.
D) Okul bahçesinin alanı 500 m² dir.

20. Aşağıdakilerden hangisi hipotezde olması gereken özelliklerden değildir?

- A) Mantıksal ve rasyonel olmalı
B) Sınanabilir olmalı
C) Literatürlere uyumlu olmalı
D) Doğru olmalı

3. OTURUM

(433) KİMYA – 3

1. Aşağıdakilerden hangisi

M. Faraday'ın elektroliz deneylerinden elde ettiği sonuçlardan biri değildir?

- A) Elektrik, taneciklerden oluşur.
B) Elektrik yükleri manyetik alanda sapar.
C) Elektrik yükü miktarı arttıkça elde edilen maddenin kütlesi artar.
D) Elektrik yükleri, maddenin yapısındaki tanecikler tarafından taşınır.

2. Elektrik yüklü katot ışınlarına ne ad verilir?

- A) Nötron B) Proton
C) Elektron D) Atom

3. Aşağıdaki ışıklardan hangisi, elektromanyetik spektrumun kızıl ötesi bölümünde yer alır?

- A) X ışınları
B) Gama ışınları
C) Radyo dalgaları
D) Görünür bölge ışınları

4. N. Bohr'un hidrojen atomu modelinde elektron, en düşük enerji düzeyinde bulunma eğilimindedir. Bu enerji düzeyine ne ad verilir?

- A) Sürekli spektrum
B) Çizgi spektrumu
C) Uyarılmış hâl
D) Temel hâl

5. Kuantum modeline göre elektronun, atomda bulunma olasılığının en yüksek olduğu bölgelere ne ad verilir?

- A) Yörünge B) Orbital
C) Katman D) Kuantum

6. ${}_{7}N$ atomunun 2p orbitalindeki elektronların dağılımı aşağıdakilerin hangisinde doğru verilmiştir?

- A) $\uparrow \uparrow \uparrow$ B) $\uparrow \uparrow \uparrow \downarrow$
C) $\uparrow \downarrow \uparrow$ D) $\uparrow \downarrow \uparrow \downarrow$

7. 2 mol Na_2SO_4 bileşiği kaç gramdır? (Na:23, S:32, O:16)

- A) 71 B) 94 C) 142 D) 284

8. ${}_{80}^{202}Hg$ ve ${}_{80}^{204}Hg$ atomlarında aşağıdakilerden hangisi farklıdır?

- A) Atom türü
B) Proton sayısı
C) Nötron sayısı
D) Elektron sayısı

9. Brom elementinin doğal izotopları ${}_{35}^{79}Br$ ve ${}_{35}^{81}Br$ olduğuna göre, periyodik tabloda kaç tane brom elementi vardır?

- A) 0 B) 1 C) 2 D) 3

10. Atomundaki değerlik elektron sayısı 2 olan ve birinci periyotta bulunmayan bir element için aşağıda verilen bilgilerden hangisinin doğruluğu kesin değildir?

- A) Toprak alkali metaldir.
B) 2A grubundadır.
C) s blokundadır.
D) 2. periyottadır.

11. ${}_{7}X$, ${}_{8}Y$, ${}_{9}Z$ atomlarının oluşturduğu anyonlar izoelektronik olduğuna göre, bu anyonların yarıçaplarının sıralanışı aşağıdakilerin hangisinde doğru verilmiştir?

- A) $X^{3-} > Y^{2-} > Z^{-}$
B) $Z^{-} > Y^{2-} > X^{3-}$
C) $X^{3-} = Y^{2-} = Z^{-}$
D) $X^{3-} = Y^{2-} > Z^{-}$

12. Aynı periyotta bulunan ve ardışık atom numaralarına sahip olan X, Y, Z, T elementlerinin 1. iyonlaşma enerjileri sırasıyla tabloda verilmiştir.

Element	X	Y	Z	T
1. iyonlaşma enerjisi (kJ/mol)	1086	1314	1680	1400

Buna göre, hangi element atomunun elektron dizilimi küresel simetrikdir?

- A) X B) Y C) Z D) T

13. Periyodik tablonun bir grubunda bulunan elementlerin bazı kimyasal özellikleri aşağıda verilmiştir.

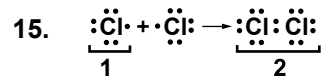
- Değerlik elektron sayısı 1'dir.
- Bazik oksit oluştururlar.
- Halojenlerle iyonik bileşik oluştururlar.

Bu özelliklere sahip olan grup aşağıdakilerden hangisidir?

- A) 4A B) 7A C) 1A D) 8A

14. Periyodik tablonun bir grubunda, yukarıdan aşağıya doğru inildikçe elementlerin aşağıdaki özelliklerinden hangisi artar?

- A) Atom yarıçapı
B) Elektron ilgisi
C) Ametallik özellik
D) Değerlik elektron sayısı



tepkime denkleminde 1 ve 2 ile gösterilen maddelerin türleri aşağıdakilerin hangisinde doğru verilmiştir?

- 1 2
A) Atom Radikal
B) İyon Molekül
C) İyon Atom
D) Radikal Molekül

3. OTURUM

(434) KİMYA – 4

16.



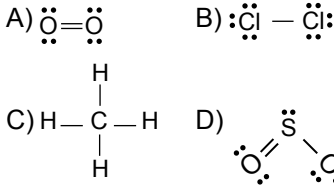
Elektron yoğunluğu şekildeki gibi eşit dağılmış olan kimyasal türdeki bağ için aşağıdakilerden hangisi doğrudur?

- A) Apolar kovalent karakterlidir.
B) Polar kovalent karakterlidir.
C) Farklı tür atomlar arasındadır.
D) Aynı tür moleküller arasındadır.

17. Aşağıdakilerden hangisi kimyasal türler arasındaki güçlü etkileşimlerden biri değildir?

- A) Kovalent bağ
B) Hidrojen bağı
C) Metalik bağ
D) İyonik bağ

18. Aşağıdaki yapıların hangisinde kalıcı dipol oluşur?



19. 1A grubundaki bazı metaller ve erime sıcaklıkları tabloda verilmiştir.

Metal	Erime sıcaklığı (°C)
Na	98
Li	181
Rb	39

Tabloya göre, bu metallerle ilgili aşağıdakilerden hangisi doğrudur?

- A) Rb atomları arasındaki çekim kuvveti en fazladır.
B) Li atomları arasındaki çekim kuvveti en fazladır.
C) Na'un atom numarası en büyüktür.
D) Li'un atom numarası en büyüktür.

20. Aşağıdaki moleküllerden hangisi H_2O ile hidrojen bağı yapar?

- A) HF B) CH_4
C) HCl D) HI

1. Aşağıdakilerden hangisi maddenin gaz hâlinin bir özelliğidir?

- A) Düzenli yapıda olması
B) Taneciklerinin yavaş hareket etmesi
C) Bulunduğu kabın tamamını doldurması
D) Tanecikleri arasında boşlukların az olması

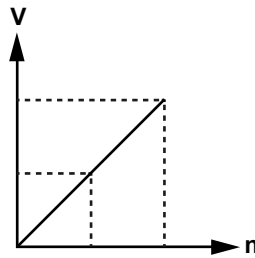
2. Aynı ortamda bulunan He ve SO_2 gazlarının yayılma hızlarının oranı kaçtır?
(He: 4 g/mol, SO_2 : 64 g/mol)

- A) 2 B) 4 C) 16 D) 32

3. Bir maddenin gaz hâlde bulunmadığı sıcaklık kaç °C'tur?

- A) -273 B) 0
C) 25 D) 273

4. Avogadro kanununa göre, gazlarda hacim-mol sayısı ilişkisini gösteren grafik aşağıdaki gibidir.



Bu grafik elde edilirken gazlarla ilgili hangi nicelikler sabit tutulmuştur?

- A) V, n B) T, n
C) P, V D) T, P

5. Aşağıdaki maddelerden hangisi bir gaz karışımıdır?

- A) Su B) Hava
C) Toprak D) Gazoz

6. Bir gaz karışımında 0,4 mol X ve 0,6 mol Y gazı bulunmaktadır.

Gazların yaptığı toplam basınç 5 atm olduğuna göre, X ve Y'nin kısmi basınçları kaç atm'dedir?

	X	Y
A)	1	1
B)	3	2
C)	2	3
D)	5	5

7. Bir gazın basınç uygulanarak sıvılaştırılabileceği en yüksek sıcaklığa ne denir?

- A) Kritik sıcaklık
B) Erime sıcaklığı
C) Donma sıcaklığı
D) Yoğuşma sıcaklığı

8. Sıvı molekülleri ile bu sıvının temas ettiği yüzeyin molekülleri arasındaki kuvvetlere ne ad verilir?

- A) Kohezyon B) Adhezyon
C) Viskozite D) Yüzey gerilimi

9. Aşağıdakilerden hangisi sadece sıvılara ait bir özelliktir?

- A) Yoğunluk
B) Akışkanlık
C) Kritik sıcaklık
D) Yüzey gerilimi

10. Maddenin;

- I - Gaz
II - Sıvı
III - Katı

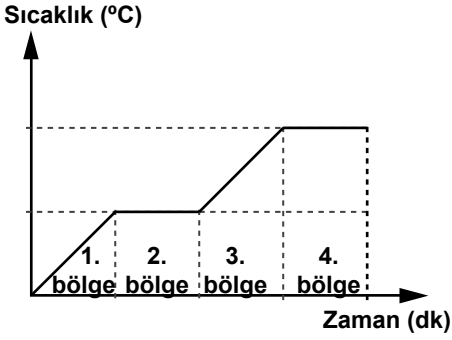
hâllerinden hangileri basınçla sıkıştırılabilir?

- A) Yalnız I B) Yalnız II
C) I ve III D) I, II ve III

3. OTURUM

(435) KİMYA – 5

11. Saf bir katı maddenin ısıtılmasına ait sıcaklık-zaman grafiği verilmiştir:



Grafiğe göre, maddenin tamamı hangi bölgede sıvı hâdedir?

- A) 4. B) 3. C) 2. D) 1.

12. Aşağıdaki hangi kristal katının tanecikleri arasında zayıf etkileşim türleri bulunur?

- A) İyonik B) Metalik
C) Kovalent D) Moleküler

13. 120 g suda 30 g tuzun çözünmesiyle hazırlanan çözelti kütlece yüzde kaçlıktır?

- A) 33 B) 30 C) 20 D) 15

14. Molarite: ...I... çözünen maddenin mol sayısıdır.

Molalite: ...II... çözünen maddenin mol sayısıdır.

Molarite ve molalitenin tanımına göre I ve II nolu yere aşağıdakilerden hangisi gelmelidir?

- | I | II |
|---------------------|------------------|
| A) 100 mL çözeltide | 1 kg çözücüde |
| B) 1 L çözeltide | 1 kg çözücüde |
| C) 100 g çözücüde | 100 mL çözeltide |
| D) 1 L çözeltide | 1 kg çözeltide |

15. Aşağıdakilerden hangisi bir gaz maddenin sudaki çözünürlüğünü artırır?

- A) Maddeyi toz hâline getirmek
B) Çözücü eklemek
C) Sıcaklığı düşürmek
D) Karıştırmak

16. Çözeltilerde bazı fiziksel özellikler çözünen taneciklerin sayısına bağlıdır.

Buna göre, aşağıdaki özelliklerden hangisi tanecik sayısına bağlı değildir?

- A) Çözünürlük
B) Osmotik basınç
C) Buhar basıncı düşmesi
D) Donma sıcaklığı düşmesi

17. Çözeltilerdeki koligatif özellikler aşağıdakilerden hangisine bağlıdır?

- A) Derişime
B) Taneciğin türüne
C) Kimyasal özelliğe
D) Taneciğin büyüklüğüne

18. Kışın yollarda buzlanmayı önlemek için tuzlama çalışması yapılır. Bu çalışma aşağıdaki hangi koligatif özellik ile ilgilidir?

- A) Osmotik basınç
B) Buhar basıncı düşmesi
C) Donma sıcaklığı düşmesi
D) Kaynama sıcaklığı yükselmesi

19. Aşağıdakilerden hangisi homojen karışımdır?

- A) Koloit B) Süspansiyon
C) Aerosol D) Çözelti

20. I- Işığın saçar. Bileşenleri süzülerek ayrılır.
II- Işığın saçmaz. Bileşenleri süzülerek ayrılmaz.

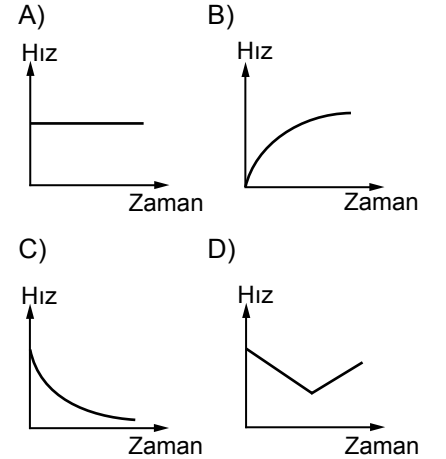
Özellikleri verilen karışımların türleri aşağıdakilerin hangisinde doğru verilmiştir?

- | I | II |
|----------------|-------------|
| A) Koloit | Çözelti |
| B) Koloit | Süspansiyon |
| C) Süspansiyon | Koloit |
| D) Süspansiyon | Çözelti |

1. Bir kimyasal tepkimenin hızını veren bağıntı aşağıdakilerden hangisidir? (n: Mol sayısı, t: Zaman, M: Molar derişim, K_d : Denge sabiti)

- A) Hız = $\frac{\Delta t}{\Delta n}$ B) Hız = $\frac{\Delta M}{\Delta t}$
C) Hız = $\frac{K_d}{\Delta t}$ D) Hız = $\frac{\Delta M}{\Delta n}$

2. Belirli bir sıcaklıkta, $2H_2(g) + O_2(g) \rightarrow 2H_2O(g)$ tepkimesinin hızı, H_2 'nin harcanma hızı olarak ifade edilirse tepkimenin hız-zaman grafiği aşağıdakilerin hangisindeki gibi olur?



3. Aynı sıcaklıkta gerçekleşen iki kimyasal tepkimenin aktiflenme enerjisi verilmiştir.

I. tepkime = 40 kJ/mol

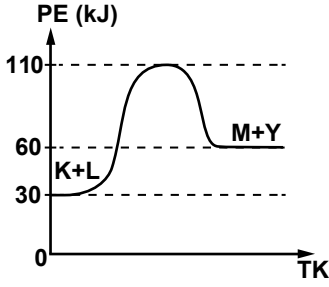
II. tepkime = 55 kJ/mol

Buna göre, tepkimelerle ilgili aşağıdakilerden hangisi kesinlikle doğrudur?

- A) I. tepkime daha hızlıdır.
B) II. tepkime daha hızlıdır.
C) II. tepkimenin ısısı daha büyüktür.
D) I. tepkimenin ısısı daha büyüktür.

3. OTURUM

4. $K_{(g)} + L_{(g)} \rightarrow M_{(g)} + Y_{(g)}$ tepkimesine ait potansiyel enerji-tepkime koordinatı grafiği şekildeki gibidir.



Grafiğe göre, tepkimeyle ilgili aşağıdakilerden hangisi söylenebilir?

- A) Tepkime ısısı sıfırdan küçüktür.
B) Girenlerin enerjisi ürünlerinkinden büyüktür.
C) İleri tepkimenin aktiflenme enerjisi geri tepkimeninkinden küçüktür.
D) Aktiflenmiş kompleksin enerjisi 110 kJ'dur.

5. Hız denklemi belli olan bir kimyasal tepkime ile ilgili aşağıdakilerden hangisi bilenebilir?

- A) Tepkime derecesi
B) Tepkimenin denklemi
C) Mekanizmalı olup olmadığı
D) Mekanizmadaki adım sayısı

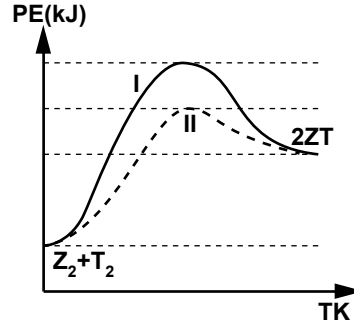
6. $2X + 3Y \rightarrow Z$ tepkimesi için belirli bir sıcaklıkta yapılan deneylerden aşağıdaki sonuçlar elde edilmiştir.

Deney	[X] (mol/L)	[Y] (mol/L)	Hız (mol/Ls)
1	0,1	0,1	0,01
2	0,1	0,2	0,02
3	0,2	0,1	0,04

Buna göre, tepkimenin hız sabiti değeri kaçtır?

- A) 20 B) 10 C) 2 D) 0,1

7. Potansiyel enerji - tepkime koordinatı grafiği l'deki gibi olan, $Z_{2(g)} + T_{2(g)} \rightarrow 2ZT_{(g)}$ tepkimesine bir işlem uygulanarak hızlandırılıyor.



Hızlı tepkimenin PE - TK grafiği II'deki gibi olduğuna göre, tepkimeye uygulanan işlem aşağıdakilerden hangisidir?

- A) Katalizör ekleme
B) Sıcaklığı artırma
C) Z_2 ve T_2 'nin derişimlerini artırma
D) Z_2 ve T_2 'nin temas yüzeyini artırma

8. I- $Cl_{2(g)} \rightleftharpoons Cl_{2(suda)}$
II- $H_2O_{(g)} \rightleftharpoons H_2O_{(s)}$
III- $H_{2(g)} + Cl_{2(g)} \rightleftharpoons 2HCl_{(s)}$

tepkimelerinden hangileri fiziksel dengeye örnektir?

- A) Yalnız II B) Yalnız III
C) I ve II D) II ve III

9. $CaCO_{3(k)} + 2H^+_{(suda)} \rightleftharpoons Ca^{+2}_{(suda)} + H_2O_{(s)} + CO_{2(g)}$

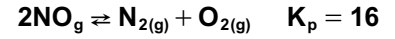
tepkimesinin derişimler türünden denge bağıntısında hangi maddeler yer alır?

- A) CO_2
B) $CaCO_3, H^+, Ca^{+2}, H_2O, CO_2$
C) H^+, Ca^{+2}
D) H^+, Ca^{+2}, CO_2

10. $H_{2(g)} + I_{2(g)} \rightleftharpoons 2HI_{(g)}$ tepkime denkleminde göre, sabit sıcaklıkta 1 L'lik kaba konulan 1 mol H_2 ve 1 mol I_2 'un %50'si ayrıştığında sistem dengeye ulaşıyor. Buna göre tepkimenin denge sabitinin değeri kaçtır?

- A) 4 B) 2 C) 0,5 D) 0,25

11. Belirli bir sıcaklıkta kapalı bir kaba, basıncı 1 atm olan NO gazı konuluyor.



tepkimesi dengeye ulaştığında kaptaki N_2 gazının kısmi basıncı kaç atm olur?

- A) $\frac{8}{9}$ B) $\frac{8}{16}$ C) $\frac{4}{16}$ D) $\frac{4}{9}$

12. Belirli bir sıcaklıkta 1L'lik kapta gerçekleşen, $K_{(g)} + L_{(g)} \rightleftharpoons Z_{(g)} + T_{(g)}$ tepkimesi için denge sabiti (K_d) 4'tür. Bu sıcaklıkta, kapta 1 mol K, 4 mol L ve 8 mol Z denge durumunda bulunduğuna göre, T'nin mol sayısı kaçtır?

- A) 4 B) 2 C) 0,8 D) 0,4

13. Denge durumundaki $2XY_{(g)} \rightleftharpoons X_{2(g)} + Y_{2(g)}$ $\Delta H > 0$ tepkimesine aşağıdaki işlemlerden hangisi uygulanırsa geri tepkimenin hızı artar?

- A) Tepkime kabı ısıtılırsa
B) Toplam basınç artırılırsa
C) Kaptan XY gazı çekilirse
D) Kaba XY gazı eklenirse

14. Belirli bir sıcaklıkta, $H_{2(g)} + ICl_{(g)} \rightleftharpoons HI_{(g)} + HCl_{(g)}$ $K_1 = 2$
 $ICl_{(g)} + HI_{(g)} \rightleftharpoons I_{2(g)} + HCl_{(g)}$ $K_2 = 8$ tepkimelerinin denge sabitleri bilindiğine göre, $H_{2(g)} + 2ICl_{(g)} \rightleftharpoons I_{2(g)} + 2HCl_{(g)}$ tepkimesinin denge sabiti kaçtır?

- A) 0,25 B) 4
C) 10 D) 16

3. OTURUM

15.

No	Madde
1	Su, Etil alkol
2	Zeytinyağı, Su
3	Su, Tuz
4	Kum, Talaş

Yukarıdaki tabloda hangi numarada bulunan maddeler birbiriyle karıştırılırsa çözünme olayı gerçekleşir?

- A) Yalnız 1 B) 1 ve 3
C) 2 ve 3 D) 1, 2 ve 4

16. Aşağıdaki maddeler suda çözünür. Buna göre, çözünme sırasında hangi maddenin düzensizlik eğilimi azalır?

- A) $C_{12}H_{22}O_{11}$ katısı
B) C_2H_5OH sıvısı
C) NaCl katısı
D) CO gazı

17. Na^+ , CH_3COO^- gibi iyonlar içeren bileşikler suda çok çözünür. Ag^+ , Cu^+ , Pb^{+2} iyonlarının klorür ve bromürleri suda az çözünür.

Buna göre, aşağıdaki sulu çözeltilerden hangisi kuvvetli elektrolittir?

- A) CH_3COONa
B) AgCl
C) $PbBr_2$
D) CuBr

18. $Mg(OH)_2$ katısının çözünürlük çarpımı bağıntısı aşağıdakilerden hangisidir?

- A) $K_{\phi} = [Mg^{+2}][2OH^-]$
B) $K_{\phi} = [2Mg^{+2}][OH^-]^2$
C) $K_{\phi} = [Mg^{+2}][OH^-]^2$
D) $K_{\phi} = [Mg^{+2}][2OH^-]^2$

19. CaF_2 , sudaki çözünürlüğü az olan ve ısı alarak çözünen bir katıdır. Belirli bir sıcaklıkta CaF_2 'nin sudaki çözünürlüğünü artırmak için aşağıdakilerden hangisi yapılmalıdır?

- A) Çözeltiyeye ortak iyon içeren bir katı eklenmeli
B) CaF_2 miktarı artırılmalı
C) Su miktarı artırılmalı
D) Sıcaklık artırılmalı

20. MgF_2 katısının belirli bir sıcaklıktaki çözünürlük çarpımı $K_{\phi} = 4 \times 10^{-6}$ 'dir.

Buna göre, MgF_2 'nin saf sudaki çözünürlüğü kaç M'dir?

- A) 4×10^{-2} B) 1×10^{-2}
C) 2×10^{-3} D) 1×10^{-3}

(445) BİYOLOJİ – 5

1. Aşağıdakilerden hangisi, bitkilerdeki meristem doku hücrelerinin özelliklerinden değildir?

- A) Bol sitoplazmalıdır.
B) Küçük çekirdeklidir.
C) Hücreleri ince çeperlidir.
D) Hücreler arası boşlukları yoktur.

2. Bulunduğu bitkinin kök ve gövdesinde iletim demetlerinin oluşmasını, bu sayede kök ve gövdede enine büyümeyi sağlayan yapıya ne ad verilir?

- A) Kambiyum B) Sklerankima
C) Kollenkima D) Temel doku

3. Bitkilerin yaprak ve genç dallarında bulunan, bitkinin terleme ve gaz alışverişinden sorumlu yapıya ne ad verilir?

- A) Tüy B) Hidatot
C) Stoma D) Korteks

4. I- Nemli ortam bitkilerinde kalındır.
II- Kurak ortam bitkilerinde incedir.

Kütikula tabakasının bitkilerdeki bulunuş şekli ile ilgili olarak verilen bilgiler için ne söylenebilir?

- A) Yalnız I doğru
B) Yalnız II doğru
C) Her ikisi de doğru
D) Her ikisi de yanlış

5. Kök, toprak derinliklerine doğru uzarken kökün uzamasını sağlayan narın yapılı meristemi koruyan yapıya ne denir?

- A) Kaliptra B) Periderm
C) Hidatot D) Kütikula

6. Aşağıdaki elementlerden hangisi, bitkilerin büyüme ve gelişmesi için ihtiyaç duyduğu makro elementlerdendir?

- A) Klor B) Çinko
C) Demir D) Karbon

7. Fabrikalarda yapay (suni) gübre üretiminde bitkinin yeterli beslenebilmesi için gerekli olan elementler kullanılır.

Aşağıda verilen elementlerden hangisi suni gübre yapımında kullanılmaz?

- A) Azot B) Bakır
C) Fosfor D) Potasyum

8. Mikorizalar mantarlar ile bitki köklerinin ortak yaşamasıyla oluşan, değişime uğramış köklerdir.

Bu birliktelikte mantarların bitkiye sağladığı fayda hangi seçenekte doğru verilmiştir?

- A) Su ve minerallerin emilmesi için bitkiye geniş yüzey alanı sağlar.
B) Havanın azotunu bağlayarak, bitkiye verir.
C) Fotosentez yaparak, ürünlerini bitkiye verir.
D) Bitki için gerekli gaz alışverişini yapar.

3. OTURUM

(448) BİYOLOJİ – 8

9. Gaz formunda olup, meyve olgunlaşmasını sağlayan bitki hormonu aşağıdakilerden hangisidir?

- A) Sitokinin B) Giberellin
C) Etilen D) Oksin

10. Ceviz ağacının köklerinin, hemen yanından geçen akarsuya doğru daha fazla uzadığı görülmüştür.

Köklerdeki bu hareket, aşağıdakilerin hangisinde doğru verilmiştir?

- A) Negatif hidrotropizma
B) Pozitif hidrotropizma
C) Pozitif geotropizma
D) Negatif geotropizma

11. Aşağıdakilerden hangisi bitki büyümesinde rol oynayan çevresel faktörlerden değildir?

- A) Işık
B) Yer çekimi
C) Atmosferdeki gazlar
D) Oksin hormonu

12. Çiçekçiler tarafından da bitkinin yaşlanmasını geciktirmek için kullanılan bitki hormonu aşağıdakilerden hangisidir?

- A) Oksin B) Giberellin
C) Etilen D) Sitokinin

13. Evindeki süs bitkisinin toprağının bir köşesine tuz döken Ali, bir süre sonra süs bitkisinin köklerinin tuzdan uzaklaştığını gözlemlemiştir.

Köklerin tuza karşı gösterdiği bu hareket aşağıdakilerden hangisidir?

- A) Pozitif tropizma
B) Negatif tropizma
C) Nasti
D) İrganım

14. Aşağıdaki bitkilerin hangisinde çiçeklenme gün uzunluğundan etkilenmez?

- A) Çilek B) Turp
C) Domates D) Patates

15. Aşağıdaki bitkilerden hangisi eksik çiçeğe sahiptir?

- A) Fındık B) Kiraz
C) Elma D) Şeftali

16. Dört tane tohum taslağı olan bir çiçekten oluşacak meyvede, en fazla kaç tane tohum oluşur?

- A) 1 B) 2
C) 3 D) 4

17. Polenlerinin dişi organ tepeciğine ulaşma şansı çok az olduğundan çok fazla polen üretmesi gereken bitkiler, aşağıdaki tozlaştırıcılardan hangisini kullanıyordu?

- A) Böcek B) Rüzgar
C) Kuş D) Su

18. I- Besi doku (endosperm)
II- Embriyo
III- Kabuk

Tohumun çimlenme sürecinde, yukarıdaki tohum bölümlerinin hangilerinin miktarında azalma olur?

- A) Yalnız I B) I ve II
C) II ve III D) I, II ve III

19. Aşağıdaki meyvelerden hangisi tek bir yumurtalığın gelişmesi ile oluşmuş, basit meyve örneğidir?

- A) Dut B) Çilek
C) Üzüm D) Ahududu

20. Tohumda çimlenmenin olmadığı, metabolizmanın çok yavaşladığı uyku haline ne ad verilir?

- A) Nasti
B) Tropizma
C) Dormansi
D) Minimum kuralı

1. I- İklim
II- Beslenme
III- Sosyo-ekonomik durum

Tek yumurta ikizlerinde, genetik yapı aynı olmasına rağmen dış görünüşlerinde bazı farklılıklar olabilmektedir. Yukarıdakilerden hangileri bu farklılığın oluşmasında etkilidir?

- A) Yalnız I B) I ve III
C) II ve III D) I, II ve III

2. Bireyin sahip olduğu genlerin toplamına ne denir?

- A) Genotip
B) Fenotip
C) Alel gen
D) Homolog kromozom

3. Aşağıdaki tanımlamalardan hangisi yanlıştır?

- A) Bireyin sahip olduğu genlerden çekinik olanları anneden gelir.
B) Genlerin kromozom üzerinde bulunduğu bölüme lokus denir.
C) Heterozigot genotipe sahip bireyin fenotipinde baskın genin etkisi görülür.
D) Bir karakterin iki ya da daha fazla farklı şekline alel gen denir.

4. Heterozigot sarı tohumlu bir bezelyeden, yeşil renk genini içeren gamet oluşma oranı % kaçtır? (Bezelyelerde sarı tohumluluk yeşil tohumluluğa baskındır.)

- A) 75 B) 50 C) 25 D) 0

5. Bir karakter bakımından melezi bireylerin çaprazlanmasındaki genotipik ayrışım oranı aşağıdakilerin hangisinde verilmiştir?

- A) 1:1 B) 3:1
C) 1:2:1 D) 9:3:3:1

3. OTURUM

6. Vücut hücrelerinin kromozom dağılımı $2n = 6 + xy$ şeklinde gösterilen sirke sineği ile ilgili verilen bilgilerden hangisi doğrudur?
- A) Bireyin cinsiyeti yoktur.
B) Vücut hücrelerinde 8 otozom vardır.
C) Eşey hücrelerinde 1 gonozom vardır.
D) Eşey hücrelerinde 4 çift kromozom bulunur.
7. I- Yumurta
II- Sperm
III- Eşey ana hücresi
- Yukarıdakilerden hangileri insanda mayoz bölünme sonucu oluşup, vücut hücrelerinin yarısı kadar kromozom taşır?
- A) Yalnız I B) I ve II
C) II ve III D) I, II ve III
8. İnsanda;
I- $21+x$
II- $23+x$
III- $22+x$
- kromozomlu yumurta hücrelerinden hangileri mayoz bölünmede ayrılmama sonucu oluşur?
- A) Yalnız I B) I ve II
C) II ve III D) I, II ve III
9. İnsanda, doğumdan sonraki ilk beş gün içerisinde bebeğe uygulanan test ile erken teşhis edilebilen, enzim eksikliğine bağlı olarak zeka gelişimini olumsuz etkileyen kalıtsal hastalık aşağıdakilerden hangisidir?
- A) Hemofili
B) Albinizm
C) Fenilketonüri
D) Orak hücreli anemi
10. Hemofili hastalığı ile ilgili aşağıdakilerden hangisi yanlıştır?
- A) Kalıtsal bir hastalıktır.
B) Y kromozomu üzerinde taşınır.
C) Erkeklerde daha çok görülür.
D) Çekinik bir özellik gösterir.
11. İnsanlarda renk körlüğü geni X kromozomu üzerinde taşınır çekinik özellik gösterdiğine göre, renk körü bir dişinin genotipi aşağıdakilerin hangisinde verilmiştir?
- A) $X^R X^R$ B) $X^R X^r$
C) $X^r X^r$ D) $X^R Y$
12. I- Gen mutasyonları
II- Nokta mutasyonları
III- Kromozom mutasyonları
- Yukarıdakilerden hangileri, gende bir nükleotidin değişmesi ile oluşan ve yalnız bir aminoasidin şifrelenmesini etkileyen mutasyondur?
- A) Yalnız I B) Yalnız II
C) I ve III D) II ve III
13. Aşağıdakilerden hangisi popülasyonun tanımıdır?
- A) Bir bireyin kalıtsal yapısıdır.
B) Bir genin frekansının hesaplanmasında, matematiğin genetiğe uygulanmasıdır.
C) İnsanlar tarafından ırk veriminin artırılması amacıyla, gelecek dölün ana-babalarının seçilerek üretilmesidir.
D) Belirli bir alanda yaşayan, kendi aralarında çiftleşebilme yeteneğine sahip olan aynı türün bireylerinin oluşturduğu topluluktur.
14. Hardy-Weinberg kuralı hangi popülasyonlar için geçerlidir?
- A) Kararlı popülasyonlar
B) Kararsız popülasyonlar
C) Küçülen popülasyonlar
D) Büyüyen popülasyonlar
15. Kararlı bir popülasyonda homozigot baskın birey frekansı 0,09 ise baskın genin frekansı kaçtır?
- A) 0,3 B) 0,6 C) 0,9 D) 1,8
16. İnsanlar tarafından ırk veriminin artırılması amacıyla gelecek dölün ana-babalarının seçilerek üretilmesine ne denir?
- A) Mutasyon
B) İzolasyon
C) Melez gücü
D) Yapay seleksiyon
17. I- Tıp
II- Zooloji
III- Arkeoloji
- Biyoteknoloji yukarıda verilen bilim dallarından hangileriyle ortak çalışır?
- A) Yalnız I B) I ve II
C) II ve III D) I, II ve III
18. Rekombinant DNA aşağıdakilerin hangisiyle elde edilir?
- A) Çeşitli yöntemlerle ana DNA zincirinden kesilen parçaların tekrar eski yerine bağlanmasıyla
B) Kesilmiş bir DNA parçasığının yabancı DNA parçasığı ile birleştirilmesiyle
C) DNA'ların küçük parçalara ayrılmasıyla
D) mRNA'ların birbirlerine bağlanmasıyla
19. I- Ligaz enzimi
II- Sıcaklık şoku
III- Yoğun tuz çözeltisi
- Yukarıdakilerden hangilerine maruz bırakılan hücrelerin hücre zarındaki delikler genişler?
- A) Yalnız I B) I ve II
C) II ve III D) I, II ve III
20. Çeşitli yöntemlerle rekombinant DNA'nın hücre zarından, herhangi bir canlı hücreye aktarılmasına ne ad verilir?
- A) Fosfataz
B) İzolasyon
C) Transformasyon
D) Restriksiyon endonükleaz

3. OTURUM

(452) ÇAĞ.TÜRK DÜN.TAR. – 2

1. Küba Buhranı, aşağıdaki devletlerden hangileri arasında yaşanmıştır?

- A) İngiltere – Almanya
- B) İtalya – Fransa
- C) Çin – Japonya
- D) SSCB - ABD

2. Pakistan ile Hindistan ilişkilerinde çözümlenemeyen bir sorun olarak günümüze kadar gelen mesele, aşağıdakilerden hangisidir?

- A) Mülteciler Meselesi
- B) Keşmir Meselesi
- C) Mısır Meselesi
- D) Musul Meselesi

3. ABD, SSCB'nin Küba'ya yerleştirdiği füzeleri sökmeye karşılığında aşağıdaki devletlerin hangisindeki füzeleri sökmeyi kabul etmiştir?

- A) Türkiye
- B) İtalya
- C) Fransa
- D) Kanada

4. Vietnam Savaşı'nda, Güney Vietnam'a aşağıdaki devletlerden hangisi yardım etmiştir?

- A) SSCB
- B) Çin
- C) ABD
- D) Fransa

5. SSCB aşağıdakilerden hangisini işgal edince ABD SALT - II Antlaşması'nı onaylamaktan vazgeçmiştir?

- A) Çekoslovakya
- B) Afganistan
- C) Türkmenistan
- D) Macaristan

6. İsrail ile Mısır arasında Camp David Antlaşmalarının imzalanmasında aktif rol oynayan devlet, aşağıdakilerden hangisidir?

- A) ABD
- B) SSCB
- C) İtalya
- D) Almanya

7. Petrol üreticisi ülkeler OPEC'i kurmakla aşağıdakilerden hangisini amaçlamışlardır?

- A) Petrol üretimini artırmak
- B) Petrol fiyatlarını belirlemek
- C) Petrol araştırmak
- D) Petrolü siyasi silah olarak kullanmak

8. Camp David Antlaşması'yla Orta Doğu'da Mısır'ın etkinliğini kaybetmesi sonucunda ortaya çıkan otorite boşluğundan yararlanarak Arap liderliği için çalışma başlatan ülke, aşağıdakilerden hangisidir?

- A) İran
- B) Ürdün
- C) Irak
- D) Suriye

9. Türkiye, günümüzde de devam eden Ege Adaları Meselesi'ni aşağıdaki devletlerden hangisiyle yaşamaktadır?

- A) Bulgaristan
- B) İran
- C) Rusya
- D) Yunanistan

10. Berlin Antlaşması'nda arabuluculuk görevi yapan İngiltere'ye geçici olarak bırakılmış olan toprağımız, aşağıdakilerden hangisidir?

- A) Girit
- B) Rodos
- C) Mora
- D) Kıbrıs

11. SSCB içindeki cumhuriyetlerde başlayan bağımsızlık hareketlerine ve milliyetler sorununa çözüm bulmak için Egemen Devletler Birliği Antlaşması fikrini ortaya atan Rus lider, aşağıdakilerden hangisidir?

- A) Mihael Gorbaçov
- B) Boris Yeltsin
- C) Stalin
- D) Lenin

12. Aşağıdakilerden hangisi Şanghay İş Birliği Örgütü üyesi devletlerden değildir?

- A) Çin
- B) Rusya
- C) Almanya
- D) Kazakistan

13. Azerbaycan Dağlık Karabağ Sorunu'nu aşağıdaki devletlerden hangisiyle yaşamaktadır?

- A) Gürcistan
- B) Ermenistan
- C) Rusya
- D) Ukrayna

14. Aşağıdakilerden hangisi Almatı Zirvesi sonucunda kurulmuştur?

- A) Kuzey Atlantik İttifakı
- B) Balkan Paketi
- C) Avrupa Birliği
- D) Bağımsız Devletler Topluluğu

15. Aşağıdakilerden hangisiyle Avrupa Topluluğu, "Avrupa Birliği" adını almıştır?

- A) Roma Antlaşması
- B) Ankara Antlaşması
- C) Maastricht Antlaşması
- D) Dayton Antlaşması

16. Aşağıdaki gelişmelerden hangisiyle Batı ve Doğu Almanya birleşmiştir?

- A) Alsace – Loren'in ele geçirilmesi
- B) Berlin Duvarı'nın yıkılması
- C) Elbe Nehri üzerinde köprü kurulması
- D) Demir yolu ağının genişletilmesi

17. Dayton Antlaşması ile aşağıdaki savaşlardan hangisi sona ermiştir?

- A) I. Körfez Savaşı
- B) Bosna Savaşı
- C) I. Dünya Savaşı
- D) II. Dünya Savaşı

18. Aşağıdaki devletlerden hangisinin Kuveyt'i işgal etmesi I. Körfez Savaşı'na neden olmuştur?

- A) Irak
- B) İran
- C) Suriye
- D) Afganistan

3. OTURUM

19. Nil Nehri suyunun kullanımı konusunda sorun yaşayan devletler arasında aşağıdakilerden hangisi yoktur?

- A) Ürdün B) Mısır
C) Sudan D) Etiyopya

20. Türkiye’de sarılık olarak tanımlanan karaciğer hastalığı aşağıdakilerden hangisidir?

- A) AIDS B) Sıtma
C) Hepatit D) Kuş Gribi

(462) EKONOMİ – 2

1. Üretim faktörlerinden toprağın geliri aşağıdakilerden hangisidir?

- A) Kâr B) Faiz
C) Ücret D) Rant

2. Et fiyatlarının aşırı ölçüde artmasıyla insanların tavuk ve balığa olan taleplerinin yükselmesi, hangi ekonomi yasasına örnek olur?

- A) Enflasyon yasasına
B) İkame yasasına
C) Talep yasasına
D) Arz yasasına

3. Malların doğrudan doğruya bir ihtiyacı karşılamak için kullanılmasına ne denir?

- A) Üretim
B) Dağıtım
C) Dolaylı tüketim
D) Dolaysız tüketim

4. Aşağıdakilerden hangisi çevre kirliliğine neden olan etkenlerdendir?

- A) Çevre eğitiminin yaygınlaştırılması
B) Altyapı işlerinin yapılması
C) Nüfusun aşırı artması
D) Yeşil alanların artması

5. Üretim yöntemi ile millî gelirin hesaplanması için hangi değerler toplanır?

- A) Devletin bir yıl içinde topladığı vergiler
B) Bir yıl içinde mal ve hizmete yapılan harcamalar
C) Üretim faktörlerinin bir yıl içinde elde ettiği gelirler
D) Tarım, sanayi ve hizmet sektörlerinin bir yıl içinde ürettiği mal ve hizmet miktarları

6. Üretim faaliyetine katılan aşağıdaki elemanlardan hangisi üretim sonucunda değişikliğe uğrar?

- A) Ulaşım araçları
B) Ham maddeler
C) Makineler
D) Araziler

7. Hazırlık evresi ya da eğitim gerektiren işlerde çalışanların emeğine ne denir?

- A) Vasıflı emek
B) Objektif emek
C) Vasıfsız emek
D) Subjektif emek

8. Maden rantının ortaya çıkış nedeni aşağıdakilerden hangisidir?

- A) Maden üretiminde farklı teknolojiler kullanılması
B) Tarım yapılan toprakların verimliliğinin farklı olması
C) Bir madenin değişik alanlarda farklı maliyetlerde üretilmesi
D) Şehrin değişik yerlerindeki konut ve iş yeri kiralalarının farklı olması

9. “Türkiye’nin asıl sahibi ve efendisi, gerçek üretici olan köylüdür. O hâlde herkesten daha çok refah, mutluluk ve servete hak kazanan ve layık olan da köylüdür...”

Atatürk, 1 Mart 1922’de TBMM’yi açış konuşmasında söylediği yukarıdaki sözleri ile aşağıdaki sektörlerden hangisinin önemini vurgulamıştır?

- A) Hizmet B) Tarım
C) Sanayi D) Ulaşım

10. Tasarruf aşağıdakilerden hangisinin oluşumunu sağlar?

- A) Sermayenin B) Üretimin
C) Gelirin D) Giderin

11. Aşağıdaki açıklamalardan hangisi ekonomi biliminde tüm-dengelem yöntemini uygulamak isteyen ekonomistlerin görüşlerine aykırı bir açıklamadır?

- A) Ekonomik olaylar karmaşık olaylardır.
B) Gözlemlerle aynı sonuçlara varılamaz.
C) Ekonomik olaylar iç içe geçmiş olaylardır.
D) Ekonomik olay sürekli tekrarlanarak sonuç kontrol edilir.

12. Fizyokrat ekonomistlerce tarımsal faaliyetlerin üretken olarak kabul edilmesi görüşü aşağıda verilen üretim kavramlarından hangisini ifade etmektedir?

- A) Üretim madde meydana getirmektir.
B) Üretim değer meydana getirmektir.
C) Üretim ekonomik malların miktarını arttırmaktır.
D) Üretim ekonomik malların faydasını arttırmaktır.

13. Üretime, bilgisi ve yaratıcı nitelikleri ile katılan bir girişimcinin, elde edilen gelirden aldığı pay aşağıdakilerden hangisidir?

- A) Rant B) Ücret
C) Faiz D) Kâr

14. I. Nitelik belirleyen vasıtalar → Kamulaştırma
II. Nicelik belirleyen vasıtalar → İhracat
III. Yönlendirici vasıtalar → Nüfus planlaması
IV. Emredici vasıtalar → Çalışma süreleri

Yukarıda ekonomi politikasının hedefleri ile yapılan eşleştirmelerden doğru olanları hangi seçenekte verilmiştir?

- A) I ve IV B) I ve III
C) II ve IV D) II, III ve I

3. OTURUM

15. Gelir ile servet terimlerinin karşılaştırılmasına yönelik verilen bilgilerden hangisi doğrudur?

- A) Gelir statiktir.
B) Servet dinamik ve devingendir.
C) Gelir, bir kişinin aktif ve pasifi arasındaki farkı belirtir.
D) Kişinin hukuken tasarruf edebildiği değerlerin bütünüdür.

16. Aşağıda verilenlerden hangisi doğanın üretim üzerine etkilerinden biri değildir?

- A) Üretim faaliyetlerinin şeklinin değişmesi
B) İklimin insanların isteğini olumlu veya olumsuz etkilemesi
C) Tarım ve sanayi üretiminin türünün belirlenmesi
D) Üretim faaliyetlerinde müteşebbisin belirlenmesi

17. Bir bahçenin sulanması hangi emek grubu içinde yer alır?

- A) Subjektif emek
B) Uygulayıcı emek
C) Yaşatıcı emek
D) Yönetici emek

18. Malın tanımına yönelik verilen özelliklerden hangisi yanlıştır?

- A) Mal kavramı ihtiyaç ile birlikte ortaya çıkmıştır.
B) İhtiyacı karşılamaya uygun vasıtalar birer maldır.
C) Doğadaki birçok bitki ve hayvan birer maldır.
D) Bir vasıtanın mal olabilmesi için doğada belirli bir ölçüde olması gerekir.

19. İnsanların ihtiyaçlarını doğrudan doğruya karşılamaya uygun olan, üretilen ve doğada belirli miktarda bulunan vasıtalara ne ad verilir?

- A) Mal
B) Servet
C) Fayda
D) Değer

20. Bir iş yerinde çalışan işçilerin ücret kesintisi korkusu yaşamaları, verimliliğe etki eden hangi etkenler arasında değerlendirilebilir?

- A) Objektif etkenler
B) Subjektif etkenler
C) İşletme organizasyonu
D) İşletme tekniğinin modernleştirilmesi

(468) MATEMATİK – 8

1. $f: \mathbb{R} - \{2\} \rightarrow \mathbb{R} - \{3\}$,

$f(x) = \frac{3x+1}{x-2}$ fonksiyonunun türevi aşağıdakilerden hangisidir?

- A) $\frac{3}{2}$
B) $\frac{-7}{(x-2)^2}$
C) $\frac{3x+1}{(x-2)^2}$
D) $\frac{3}{x-2}$

2. $f: \mathbb{R} \rightarrow \mathbb{R}$, $f(x) = 4x^2 - 3x + 1$ olduğuna göre, $f'(-2)$ değeri kaçtır?

- A) -19
B) -13
C) 13
D) 23

3. $f(x) = e^x \cdot (x^2 - 2x + 2)$ fonksiyonunun türevi aşağıdakilerden hangisidir?

- A) $e^x \cdot x^2$
B) $e^x \cdot (x^2 - 2)$
C) $e^x \cdot (2x - 2)$
D) e^x

4. $F(x, y) = x^3 + y^3 - xy^2 + x^2y$ bağıntısı ile verilen fonksiyonun türevi aşağıdakilerden hangisidir?

- A) $\frac{3x^2 + 2x}{3y^2 - 2y}$
B) $\frac{3y^2 - x^2 + 2xy}{y^2 + 3x^2 + 2x}$
C) $\frac{3y^2 - 2y}{3x^2 + 2x}$
D) $\frac{y^2 - 3x^2 - 2xy}{3y^2 + x^2 - 2xy}$

5. $f(x) = x^3 - 2x$ ve $g(x) = 2x + 1$ olduğuna göre, $(g \circ f)'(-1)$ değeri kaçtır?

- A) 0
B) 2
C) 4
D) 6

6. $f: (-3, \infty) \rightarrow \mathbb{R}$, $f(x) = \ln(x + 3)$ olduğuna göre, $f'(0)$ değeri kaçtır?

- A) $\frac{1}{3}$
B) $\frac{1}{2}$
C) 1
D) 3

7. $f(x) = \arctan\left(\frac{x-1}{x+1}\right)$ fonksiyonunun türevi aşağıdakilerden hangisidir?

- A) $\frac{2x+2}{x-1}$
B) $\frac{2}{(x+1)^2}$
C) $\frac{1}{x^2+1}$
D) $\frac{x-1}{(x+1)^2}$

8. $f(x) = -2x^3 + 24x + 1$ fonksiyonu aşağıdaki aralıklardan hangisinde artan bir fonksiyondur?

- A) $(-\infty, -2)$
B) $(-2, 2)$
C) $(2, \infty)$
D) $(-2, \infty)$

9. $f(x) = x^2 + 4x - 1$ eğrisine $x = 1$ apsisli noktasından çizilen teğetin denklemi aşağıdakilerden hangisidir?

- A) $y = 4x$
B) $y = 5x - 1$
C) $y = 3x + 1$
D) $y = 6x - 2$

10. $\int (3x^2 + 4x - 8) dx$ aşağıdakilerden hangisine eşittir?

- A) $6x + c$
B) $x^3 + 2x^2 - 8x + c$
C) $3x^3 + 4x^2 - 8x + c$
D) $3x^2 + 4x + c$

11. $\int (2x^3 + 5x + 6) \cdot (6x^2 + 5) dx$ aşağıdakilerden hangisine eşittir?

- A) $\frac{(2x^3 + 5x + 6)^2}{4} + c$
B) $\frac{(2x^3 + 5x + 6)^2}{2} + c$
C) $\frac{(6x^2 + 5)^2}{2} + c$
D) $(2x^3 + 5x + 6)^2 \cdot (10x^2 + 5) + c$

3. OTURUM

12. $\int x \cdot e^x dx$ aşağıdakilerden hangisine eşittir?

- A) $e^x \cdot (x + 1) + c$
 B) $x \cdot e^x + c$
 C) $x \cdot e^x - e^x + c$
 D) $x^2 \cdot e^x - e^x + c$

13. $\int_{-1}^1 (x^3 - 2x^2 + 5) dx$ değeri kaçtır?

- A) 0 B) $\frac{4}{3}$ C) $\frac{26}{3}$ D) 10

14. $\int_{-2}^2 |x| dx$ değeri kaçtır?

- A) -4 B) -2 C) 0 D) 4

15. $f(x) = x^2$ ve $g(x) = x$ fonksiyonlarının grafikleri ile sınırlanan alanın Ox eksenini etrafında 360° döndürülmesiyle oluşan cismin hacmi kaç birimküptür? (π yerine 3 alınız.)

- A) 1 B) $\frac{4}{5}$ C) $\frac{3}{5}$ D) $\frac{2}{5}$

16. $y = x^2 - 1$ eğrisi ile $y = x - 1$ doğrusunun sınırladığı bölgenin alanı kaç birimkaredir?

- A) $\frac{1}{6}$ B) $\frac{1}{3}$ C) $\frac{1}{2}$ D) 1

17. $\begin{bmatrix} 2 & 1 \\ -1 & 0 \end{bmatrix}$ matrisinin transpozu aşağıdakilerden hangisidir?

- A) $\begin{bmatrix} 2 & -1 \\ 0 & 1 \end{bmatrix}$ B) $\begin{bmatrix} 1 & 2 \\ 0 & -1 \end{bmatrix}$
 C) $\begin{bmatrix} 2 & -1 \\ 1 & 0 \end{bmatrix}$ D) $\begin{bmatrix} -1 & 0 \\ 2 & 1 \end{bmatrix}$

18. $A = \begin{bmatrix} -1 & 0 \\ 2 & 3 \end{bmatrix}$ ve $B = \begin{bmatrix} 1 & -1 \\ 2 & 0 \end{bmatrix}$ olduğuna göre $A + 2B$ matrisi aşağıdakilerden hangisidir?

- A) $\begin{bmatrix} -1 & 10 \\ 6 & 0 \end{bmatrix}$ B) $\begin{bmatrix} 1 & 3 \\ 2 & 6 \end{bmatrix}$
 C) $\begin{bmatrix} 1 & -2 \\ 6 & 3 \end{bmatrix}$ D) $\begin{bmatrix} -1 & 6 \\ 0 & 10 \end{bmatrix}$

19. $\begin{vmatrix} 4 & -3 & 2 \\ -1 & -2 & 1 \\ 3 & -2 & 4 \end{vmatrix}$ determinantının değeri kaçtır?

- A) 24 B) 12
 C) -15 D) -29

20. x ve y birer doğal sayı,

$\begin{vmatrix} x & y \\ y & x \end{vmatrix} = 17$ olduğuna göre, $x \cdot y$ kaçtır?

- A) 72 B) 17 C) -17 D) -72

(478) MANTIK - 1

1. Mantık doğrusu, doğruluğu gözlem ve deneyle değil akıl aracılığıyla bilinen yargılardır.

Buna göre aşağıdakilerden hangisi, mantık doğrusuna örnek olur?

- A) Taş serttir.
 B) Kar beyazdır.
 C) Hiçbir insan kedi değildir.
 D) Bütün bitkiler fotosentez yapar.

2. Demir ısıtılınca genişler.

Bakır ısıtılınca genişler.

Kalay ısıtılınca genişler.

O hâlde, madenler ısıtılınca genişler.

Verilen akıl yürütme biçimi aşağıdakilerden hangisine örnek oluşturur?

- A) Analojiye
 B) Tümevarıma
 C) Tümdengelim
 D) Özdeşlik ilkesine

3. Aşağıdakilerden hangisi akıl (mantık) ilkelerinden biri değildir?

- A) Cins
 B) Özdeşlik
 C) Çelişmezlik
 D) Üçüncü hâlin olanaksızlığı

4. Aşağıdaki ifadelerden hangisi yanlıştır?

- A) Aristoteles'in mantık üzerine yazdığı altı kitap, kendisinden sonra "Organon" adı altında toplanmıştır.
 B) Mantık, doğru düşünmenin kurallarını inceleyen bir disiplindir.
 C) Tümdengelim; özelden genele, tikelden tümele uzanan düşünme biçimidir.
 D) Bilgi doğrusu, yargının nesnesiyle olan uygunluğudur.

5. Aşağıdakilerden hangisi tümel kavramdır?

- A) Ayşe
 B) Bazı insanlar
 C) Kimi insanlar
 D) Tüm insanlar

6. Aşağıdakilerden hangisi olumsuz kavramdır?

- A) Görgüsüz B) Yürüyen
 C) Gayretli D) Tembel

7. Varlık \rightarrow Canlı \rightarrow Bitki \rightarrow Ağaç
Verilenlerden hangisinin içlemi en fazladır?

- A) Varlık B) Canlı
 C) Bitki D) Ağaç

8. I. Yiğit
 II. İnsanlık
 III. Güzellik
 IV. Kitap

Yukarıda verilenlerden hangileri soyut kavramdır?

- A) I ve II B) II ve III
 C) I ve IV D) II ve IV

3. OTURUM

9. Hiçbir kedi köpek değildir.
Hiçbir köpek kedi değildir.

Yukarıda verilen önermelerde kedi ve köpek kavramları arasındaki ilişki türü hangisidir?

- A) Ayrıklık ilişkisi
B) Eşitlik ilişkisi
C) Tam girişimlilik ilişkisi
D) Eksik girişimlilik ilişkisi

10. Aşağıdaki kavramlardan hangisi **sadece insana özgü** bir özelliği ifade eder?

- A) Üremek B) Uyumak
C) Okumak D) Dinlenmek

11. Önerme, en az iki terimden oluşan, içinde en az bir yargı ve bir doğruluk değeri taşıyan cümlelerdir.

Buna göre aşağıdaki cümlelerden hangisi önermedir?

- A) Vay canına!
B) İnsanlar kardeştir.
C) İnsan, nasıl insan oldu?
D) Trafik kazaları olmasın.

12. "Bazı bitkiler çiçek değildir." yargısı önerme çeşitlerinden hangisine örnek olur?

- A) Tikel olumlu
B) Tümel olumlu
C) Tikel olumsuz
D) Tümel olumsuz

13. Aşağıdakilerden hangisi bileşik önermedir?

- A) Çocuklar sevimlidir.
B) Gökhan çalışkandır.
C) Bazı işçiler grevedir.
D) Ayşe çalışır ise başarılı olur.

14. "Bütün gençler dinamiktir." önermesinin **karşıtı** olan önerme hangisidir?

- A) Bazı gençler dinamiktir.
B) Hiçbir genç dinamik değildir.
C) Bazı gençler dinamik değildir.
D) Bütün dinamik olanlar genç olanlardır.

15. "Bir önermenin niteliğini bozmaksızın öznesini yüklem, yüklemine özne yaparak anlamca eş değer, aynı doğruluk değerine sahip yeni bir önerme yapmaktır."

Yukarıda tanımı verilen önermeler arası ilişki türü hangisidir?

- A) Karşı olma B) Çelişik olma
C) Altık olma D) Döndürme

16. "Tümel olumlu önermenin çelişği tikel olumsuzdur."

Buna göre "Bütün çiçekler canlıdır." önermesinin çelişği hangisidir?

- A) Hiçbir çiçek canlı değildir.
B) Bazı çiçekler canlı değildir.
C) Bütün canlılar çiçektir.
D) Bazı çiçekler canlıdır.

17. "İki öncül ve bir sonuçtan oluşan kıyaslardır."

Yukarıda açıklanan kıyas çeşidi hangisidir?

- A) Sorit
B) Bileşik Kıyas
C) Basit Kıyas
D) Zincirleme Kıyas

18. Aşağıdakilerden hangisi **yüklemli kesin kıyasların geçerli olabilmesi için uyulması gereken kurallardan biri değildir?**

- A) İki olumlu öncülden çıkan sonuç olumsuzdur.
B) Her kıyas, iki öncül ve bir sonuçtan oluşur.
C) Her kıyasta, büyük, küçük ve orta terim vardır.
D) İki olumsuz öncülden bir sonuç çıkmaz.

19. Her yüklemli kesin kıyasta büyük terim, sonuç önermesinin yüklemi olan terimdir. Aynı zamanda kapsamı en fazla olan terimdir.

Bütün ressamlar sanatçdır.
Abidin Dino ressamdır.
O hâlde, Abidin Dino sanatçdır.

Buna göre, verilen kıyastaki büyük terim hangisidir?

- A) Abidin Dino B) Ressam
C) O hâlde D) Sanatçı

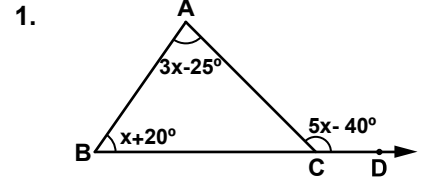
20. 1. Öncül: Bütün insanlar ölümlüdür.

2. Öncül: Sokrates insandır.
Sonuç : O hâlde -----

Yukarıdaki kıyasta, verilen öncüllerden zorunlu olarak çıkarılacak sonuç önermesi hangisidir?

- A) Sokrates ölümlüdür.
B) Sokrates ölümsüzdür.
C) Bazı insanlar ölümlüdür.
D) Bütün insanlar ölümsüzdür.

(494) GEOMETRİ – 4



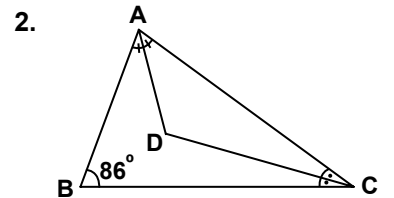
Şekildeki ABC üçgeninde

$$m(\widehat{ABD}) = x + 20^\circ,$$

$$m(\widehat{BAC}) = 3x - 25^\circ \text{ ve}$$

$$m(\widehat{ACD}) = 5x - 40^\circ \text{ olduğuna göre, } x \text{ kaç derecedir?}$$

- A) 35 B) 40 C) 45 D) 50



Şekildeki ABC üçgeninde,

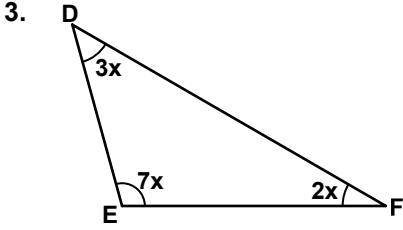
$$[DC], \widehat{BCA} \text{ 'nın ve}$$

$$[DA], \widehat{BAC} \text{ 'nın açıortayıdır.}$$

$$m(\widehat{ABC}) = 86^\circ \text{ olduğuna göre, } m(\widehat{ADC}) \text{ kaç derecedir?}$$

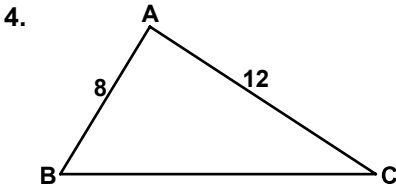
- A) 94 B) 117 C) 129 D) 133

3. OTURUM



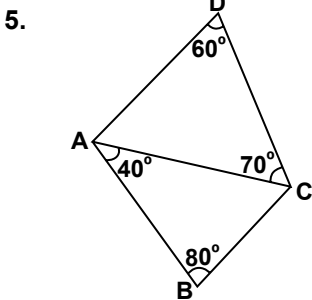
Şekildeki DEF üçgeninde $m(\widehat{FDE}) = 3x$, $m(\widehat{DEF}) = 7x$ ve $m(\widehat{DFE}) = 2x$ olduğuna göre, x kaç derecedir?

- A) 12 B) 15 C) 18 D) 24



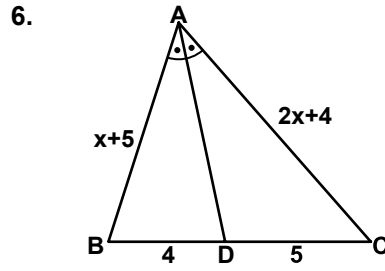
Şekildeki ABC üçgeninde $|AB| = 8$ cm ve $|AC| = 12$ cm olduğuna göre, $|BC|$ 'nin santimetre cinsinden alabileceği en büyük tam sayı değeri kaçtır?

- A) 18 B) 19 C) 20 D) 21



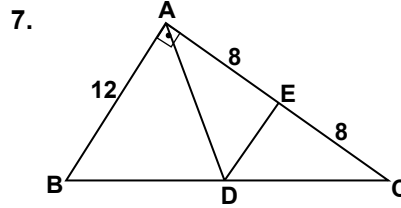
Şekilde $m(\widehat{ADC}) = 60^\circ$, $m(\widehat{DCA}) = 70^\circ$, $m(\widehat{CBA}) = 80^\circ$ ve $m(\widehat{BAC}) = 40^\circ$ olduğuna göre, en uzun kenar aşağıdaki-lerden hangisidir?

- A) [AC] B) [AB]
C) [DC] D) [AD]



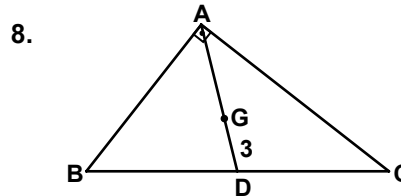
Şekildeki ABC üçgeninde $[AD]$, \widehat{BAC} 'nın açıortaydır. $|AB| = (x + 5)$ cm, $|AC| = (2x + 4)$ cm, $|BD| = 4$ cm ve $|DC| = 5$ cm olduğuna göre, $|AB|$ kaç santimetredir?

- A) 6 B) 7 C) 8 D) 10



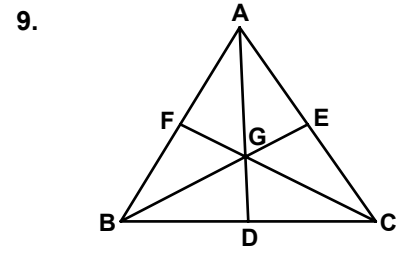
Şekildeki ABC üçgeninde, $[AB] \perp [AC]$ ve $[AD]$ kenarortaydır. $|AE| = |EC| = 8$ cm ve $|AB| = 12$ cm olduğuna göre, $|DE|$ kaç santimetredir?

- A) 8 B) 7 C) 6 D) 5



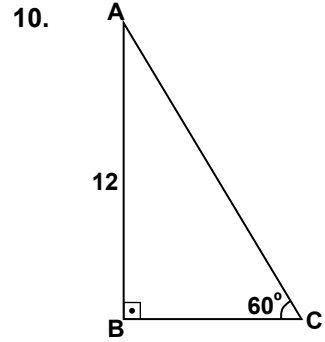
Şekildeki ABC üçgeninde G ağırlık merkezi $[AD]$ 'nin üzerindedir. $[AB] \perp [AC]$ ve $|GD| = 3$ cm olduğuna göre, $|BC|$ kaç santimetredir?

- A) 9 B) 12 C) 18 D) 24



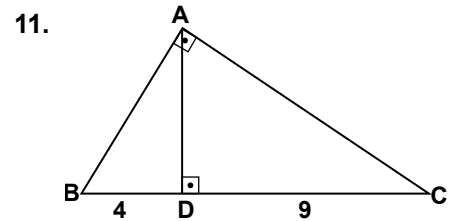
Şekildeki ABC üçgeninin ağırlık merkezi $[AD]$, $[BE]$ ve $[CF]$ 'nin kesiştiği G noktasıdır. $|BG| + |CG| + |AG| = 16$ cm olduğuna göre, $|AD| + |BE| + |CF|$ kaç santimetredir?

- A) 8 B) 16 C) 24 D) 32



Şekildeki ABC üçgeninde, $[AB] \perp [BC]$ ve $|AB| = 12$ cm olduğuna göre, $|AC|$ kaç santimetredir?

- A) 6 B) $8\sqrt{3}$
C) $12\sqrt{3}$ D) 24

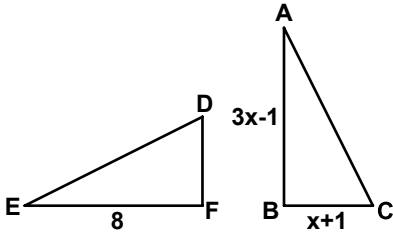


Şekildeki ABC üçgeninde, $[AB] \perp [AC]$ ve $[AD] \perp [BC]$ 'tir. $|BD| = 4$ cm ve $|DC| = 9$ cm olduğuna göre, $|AD|$ kaç santimetredir?

- A) 6 B) 8 C) 10 D) 12

3. OTURUM

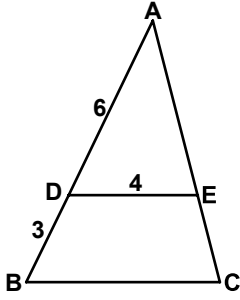
12.



Şekilde $\widehat{DEF} \cong \widehat{CAB}$ 'tir.
 $|EF| = 8$ cm, $|AB| = (3x - 1)$ cm
 ve $|BC| = (x + 1)$ cm olduğuna
 göre, $|DF|$ kaç santimetredir?

- A) 4 B) 5 C) 6 D) 7

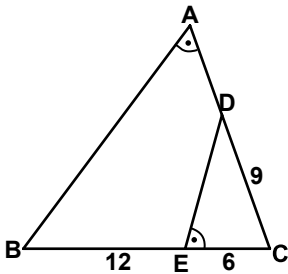
13.



Şekilde $[DE] \parallel [BC]$,
 $|AD| = 6$ cm, $|DB| = 3$ cm ve
 $|DE| = 4$ cm olduğuna göre,
 $|BC|$ kaç santimetredir?

- A) 10 B) 9 C) 8 D) 6

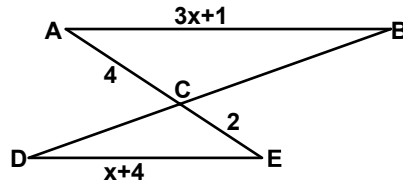
14.



Şekilde $m(\widehat{BAC}) = m(\widehat{DEC})$ 'tir.
 $|DC| = 9$ cm, $|EC| = 6$ cm ve
 $|BE| = 12$ cm olduğuna göre,
 $|AD|$ kaç santimetredir?

- A) 3 B) 4 C) 6 D) 8

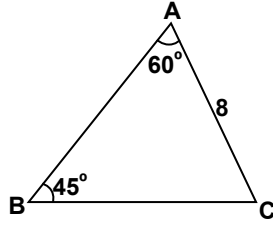
15.



Şekilde $[AB] \parallel [DE]$,
 $|AC| = 4$ cm, $|CE| = 2$ cm,
 $|AB| = (3x + 1)$ cm ve
 $|DE| = (x + 4)$ cm olduğuna
 göre, x kaç santimetredir?

- A) 7 B) 8 C) 9 D) 10

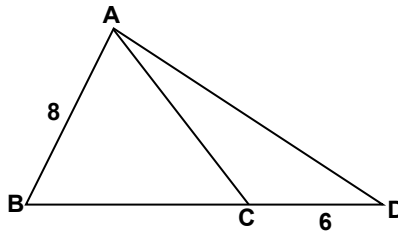
16.



Şekildeki ABC üçgeninde,
 $m(\widehat{BAC}) = 60^\circ$, $m(\widehat{ABC}) = 45^\circ$
 ve $|AC| = 8$ cm olduğuna göre,
 $|BC|$ kaç santimetredir?

- A) $6\sqrt{2}$ B) $4\sqrt{6}$
 C) $6\sqrt{3}$ D) $8\sqrt{3}$

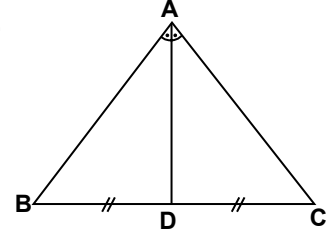
17.



Şekildeki ABC üçgeni eşke-
 nar üçgen ve B, C, D noktaları
 doğrusaldır. $|AB| = 8$ cm ve
 $|CD| = 6$ cm olduğuna göre,
 $|AD|$ kaç santimetredir?

- A) 10 B) 12
 C) $2\sqrt{37}$ D) $4\sqrt{23}$

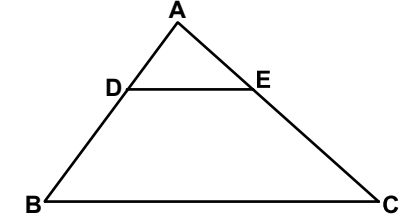
18.



Şekildeki ABC üçgeninde
 $[AD]$, \widehat{BAC} 'nın açıortayıdır.
 $|DC| = 5$ cm, $|AD| = 12$ cm ve
 $|BD| = |DC|$ olduğuna göre,
 ABC üçgeninin çevresi kaç
 santimetredir?

- A) 28 B) 30 C) 34 D) 36

19.



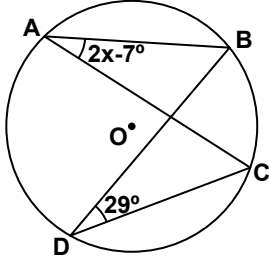
Şekilde $[DE] \parallel [BC]$,
 $|AD| = 2$ cm, $|DE| = 3$ cm,
 $|DB| = x$ cm ve
 $|BC| = (x + 5)$ cm olduğuna
 göre, $\frac{A(\widehat{ADE})}{A(\widehat{ABC})}$ nedir?

- A) $\frac{1}{2}$ B) $\frac{1}{3}$ C) $\frac{1}{4}$ D) $\frac{1}{9}$

20. Kenar uzunlukları 8 cm, 10 cm
 ve 12 cm olan üçgenin alanı
 kaç santimetrekaredir?

- A) $12\sqrt{7}$ B) $13\sqrt{7}$
 C) $15\sqrt{7}$ D) $30\sqrt{7}$

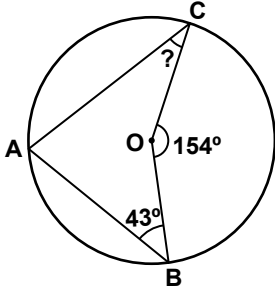
1.



Şekildeki O merkezli çemberde, $m(\widehat{BAC}) = 2x - 7^\circ$ ve $m(\widehat{BDC}) = 29^\circ$ olduğuna göre, x kaç derecedir?

- A) 32 B) 24 C) 20 D) 18

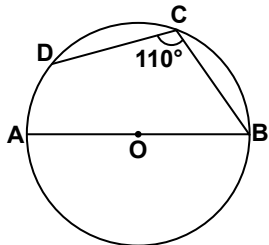
2.



Şekildeki O merkezli çemberde, $m(\widehat{ABO}) = 43^\circ$ ve $m(\widehat{COB}) = 154^\circ$ olduğuna göre, $m(\widehat{ACO})$ kaç derecedir?

- A) 28 B) 34 C) 54 D) 60

3.

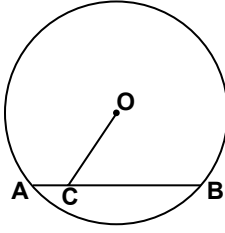


Şekildeki O merkezli çemberde $[AB]$ çap, $|DC| = |CB|$ ve $m(\widehat{DCB}) = 110^\circ$ olduğuna göre, $m(\widehat{CB})$ kaç derecedir?

- A) 60 B) 65 C) 70 D) 75

3. OTURUM

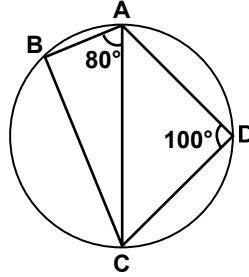
4.



Şekildeki O merkezli çemberde $|OC| = 5$ cm, $|AC| = 1$ cm, $|AB| = 8$ cm olduğuna göre, çemberin yarıçapının uzunluğu kaç santimetredir?

- A) $3\sqrt{3}$ B) 4
C) $4\sqrt{2}$ D) 5

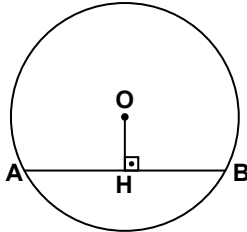
5.



Şekildeki ABCD kirişler dörtgeninde, $m(\widehat{BAC}) = 80^\circ$ ve $m(\widehat{ADC}) = 100^\circ$ olduğuna göre, $m(\widehat{BCA})$ kaç derecedir?

- A) 10 B) 20 C) 30 D) 40

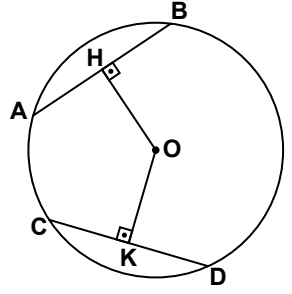
6.



Şekildeki O merkezli çemberde, $[OH] \perp [AB]$ 'tir. $|OH| = 8$ cm ve $|AB| = 30$ cm olduğuna göre, çemberin yarıçapının uzunluğu kaç santimetredir?

- A) 25 B) 24 C) 17 D) 15

7.



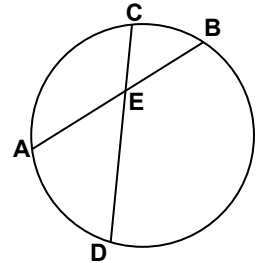
Şekildeki O merkezli çemberde, $[OH] \perp [AB]$, $[OK] \perp [CD]$ ve $|OH| = |OK|$ 'tir. $|AB| = (2x + 7)$ cm ve $|CD| = (5x - 2)$ cm olduğuna göre, $|CD|$ kaç santimetredir?

- A) 15 B) 13 C) 11 D) 8

8. Aşağıdaki ifadelerden hangisi yanlıştır?

- A) Çapı gören çevre açının ölçüsü 90° dir.
B) Aynı yayı gören çevre açılı ile merkez açının ölçüleri birbirine eşittir.
C) Aynı yayı gören çevre açılı ile teğet kiriş açının ölçüleri birbirine eşittir.
D) Bir çemberin yay ölçüsü 360° dir.

9.

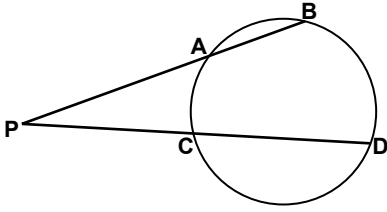


Şekilde $[AB]$ ve $[CD]$, E noktasında kesişen kirişlerdir. $|AE| = (x + 2)$ cm, $|EB| = x$ cm, $|CE| = 3$ cm ve $|ED| = 8$ cm olduğuna göre, $|AB|$ kaç santimetredir?

- A) 4 B) 6 C) 8 D) 10

3. OTURUM

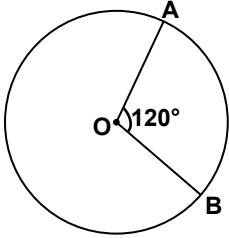
10.



Şekilde A, B, C, D noktaları çemberin üzerindedir. $|PA| = 5$ cm, $|PB| = 7$ cm ve $|PC| = 4$ cm olduğuna göre, $|CD|$ kaç santimetredir?

- A) $\frac{19}{4}$ B) $\frac{21}{4}$ C) $\frac{5}{2}$ D) $\frac{7}{2}$

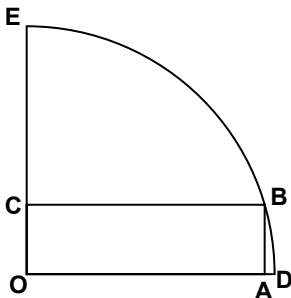
11.



Şekildeki O merkezli çemberde, $m(\widehat{AOB}) = 120^\circ$ ve $|\widehat{AB}| = 6$ cm olduğuna göre, çemberin yarıçapının uzunluğu kaç santimetredir? (π yerine 3 alınız.)

- A) 3 B) 4 C) 5 D) 6

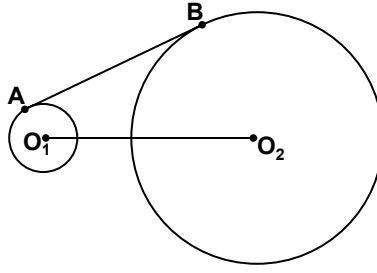
12.



Şekildeki O merkezli çeyrek çemberin içine OABC dikdörtgeni çizilmiştir. $|OA| = 24$ cm ve $|AB| = 7$ cm olduğuna göre, çemberin yarıçapının uzunluğu kaç santimetredir?

- A) 17 B) 20 C) 23 D) 25

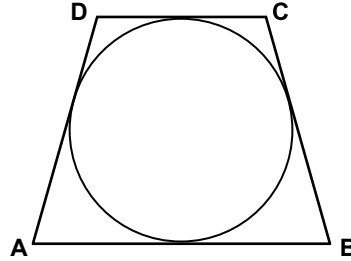
13.



Ortak teğeti $[AB]$ olan O_1 ve O_2 merkezli çemberlerin yarıçaplarının uzunlukları sırasıyla 2 cm ve 10 cm'dir. $|AB| = 15$ cm olduğuna göre, $|O_1O_2|$ kaç santimetredir?

- A) 10 B) 12 C) 15 D) 17

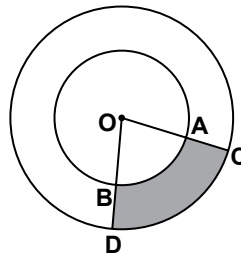
14.



Şekildeki ABCD teğetler dörtgeninde, $|AB| = 10$ cm ve $|DC| = 7$ cm olduğuna göre, ABCD dörtgeninin çevresi kaç santimetredir?

- A) 24 B) 27 C) 34 D) 37

15.



Şekildeki O merkezli çemberlerin yarıçapları

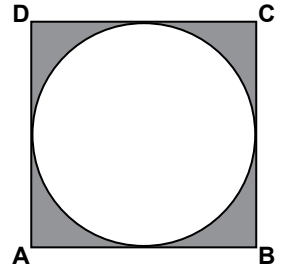
$|OA| = |OB| = 4$ cm ve

$|OC| = |OD| = 6$ cm'dir.

$m(\widehat{COD}) = 60^\circ$ olduğuna göre, boyalı bölgenin alanı kaç santimetrekaredir? (π yerine 3 alınız.)

- A) 8 B) 10 C) 16 D) 18

16.



Şekildeki O merkezli çember ABCD karesine içten teğettir. $|AB| = 6$ cm olduğuna göre, boyalı bölgenin alanı kaç santimetrekaredir? (π yerine 3 alınız.)

- A) 9 B) 12 C) 15 D) 18

17. İki kenarının uzunluğu 5 cm ve 11 cm olan bir üçgenin çevresi kaç santimetre olamaz?

- A) 24 B) 28 C) 30 D) 33

18. Düzlemde sabit bir O noktasından 6 birim uzaklıktaki noktaların geometrik yeri aşağıdakilerden hangisidir?

- A) (O, 6) çemberi
B) (O, 8) çemberi
C) (O, 12) çemberi
D) (O, 10) çemberi

19. Düzlemde $x = 5$ ve $x = 11$ doğrularına eşit uzaklıktaki noktaların geometrik yeri aşağıdakilerden hangisidir?

- A) $x = 8$ doğrusu
B) $x = 12$ doğrusu
C) $x = 16$ doğrusu
D) $x = 21$ doğrusu

20. Düzlemdeki bir A noktasından eşit uzaklıkta bulunan noktalar kümesi ile bir d doğrusunun ara kesiti en fazla kaç nokta olabilir?

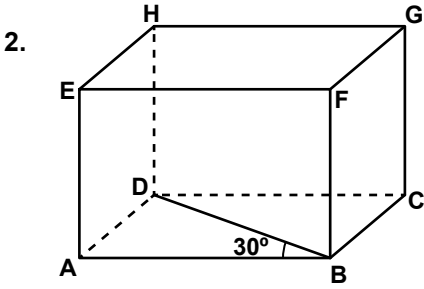
- A) 0 B) 1 C) 2 D) 3

3. OTURUM

(497) GEOMETRİ – 7

1. Farklı üç yüzünün alanları 88 cm^2 , 104 cm^2 ve 143 cm^2 olan dikdörtgenler prizmasının hacmi kaç santimetreküptür?

A) 335 B) 616 C) 792 D) 1144



Şekildeki dikdörtgenler prizmasında $m(\widehat{DBA}) = 30^\circ$, $|DB| = 4 \text{ cm}$ ve $|EA| = 5 \text{ cm}$ olduğuna göre, dikdörtgenler prizmasının hacmi kaç santimetreküptür?

A) 10 B) $10\sqrt{3}$
C) $20\sqrt{3}$ D) 25

3. Hacmi 64 cm^3 olan bir küpün yüzey alanı kaç santimetrekaredir?

A) 24 B) 36 C) 54 D) 96

4. Yüzey alanı 150 cm^2 olan bir küpün cisim köşegeninin uzunluğu kaç santimetredir?

A) $5\sqrt{3}$ B) $5\sqrt{2}$
C) $3\sqrt{5}$ D) $2\sqrt{5}$

5. Bir ayrıttının uzunluğu 7 cm olan küp şeklindeki tahta parçasından, bir ayrıttının uzunluğu 2 cm olan küp şeklindeki tahta parçası kesilerek çıkartılıyor. Kalan cismin hacmi kaç santimetreküptür?

A) 335 B) 339
C) 340 D) 343

6. Bir kare dik prizmanın hacmi 288 cm^3 , yüksekliği 8 cm'dir. Bu kare dik prizmanın taban ayrıtlarından birinin uzunluğu kaç santimetredir?

A) 4 B) 5 C) 6 D) 8

7. Taban ayrıtlarından birinin uzunluğu 6 cm olan düzgün sekizgen dik prizmanın yüksekliği 10 cm'dir. Bu prizmanın yanal alanı kaç santimetrekaredir?

A) 360 B) 420
C) 480 D) 640

8. Taban ayrıtlarından birinin uzunluğu 8 cm ve yüksekliği 12 cm olan kare dik prizmanın yüzey alanı kaç santimetrekaredir?

A) 484 B) 512 C) 548 D) 576

9. Taban ayrıtlarının uzunlukları 6 cm, 8 cm, 10 cm ve yüksekliği 10 cm olan dik üçgen dik prizmanın yüzey alanı kaç santimetrekaredir?

A) 188 B) 240
C) 264 D) 288

10. Tabanı ayrıtlarından birinin uzunluğu $2\sqrt{6} \text{ cm}$ ve yüksekliği 8 cm olan düzgün kare piramidin hacmi kaç santimetreküptür?

A) 64 B) $64\sqrt{6}$
C) $96\sqrt{2}$ D) 192

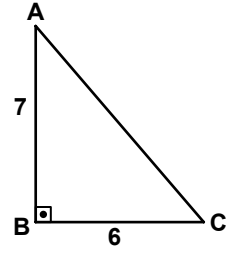
11. Bir ayrıttının uzunluğu $3\sqrt{2} \text{ cm}$ olan düzgün sekizyüzlünün hacmi kaç santimetreküptür?

A) 27 B) 36 C) 48 D) 54

12. Yüzey alanı $36\sqrt{3} \text{ cm}^2$ olan düzgün dörtyüzlünün hacmi kaç santimetreküptür?

A) $18\sqrt{2}$ B) 36
C) 48 D) $54\sqrt{2}$

13.



ABC üçgeninde $m(\widehat{ABC}) = 90^\circ$, $|AB| = 7 \text{ cm}$ ve $|BC| = 6 \text{ cm}$ 'dir. ABC dik üçgeninin $[AB]$ etrafında 360° döndürülmesiyle oluşan cismin hacmi kaç π santimetreküptür?

A) 84 B) 124
C) 168 D) 252

14. Taban çapının uzunluğu 30 cm ve ana doğrusunun uzunluğu 17 cm olan dik dairesel koninin yüzey alanı kaç santimetrekaredir? (π yerine 3 alınız.)

A) 1750 B) 1600
C) 1440 D) 1350

15. Taban yarıçapının uzunluğu 4 cm yüksekliği 6 cm olan dik dairesel silindirin yüzey alanı kaç santimetrekaredir? (π yerine 3 alınız.)

A) 144 B) 192
C) 240 D) 256

16. Yüksekliği 12 cm ve taban yarıçapının uzunluğu 5 cm olan dik dairesel silindir biçimindeki bir kabın tamamı su ile doludur. Kaptaki suyun $\frac{1}{3}$ 'i boşaltılırsa geriye kaç santimetreküp su kalır? (π yerine 3 alınız.)

A) 900 B) 600
C) 450 D) 300

17. Taban yarıçapının uzunluğu 2 cm olan bir dik silindirin hacmi 96 cm^3 olduğuna göre, yüksekliği kaç santimetredir? (π yerine 3 alınız.)

A) 4 B) 5 C) 6 D) 8

3. OTURUM

18. Hacmi 500 cm^3 olan kürenin yüzey alanı kaç santimetrekaredir? (π yerine 3 alınız.)

- A) 200 B) 250 C) 300 D) 350

19. Bir ayırıtının uzunluğu 8 cm olan küpün içine konulabilecek en büyük hacimli kürenin yüzey alanı kaç santimetrekaredir? (π yerine 3 alınız.)

- A) 180 B) 192 C) 260 D) 288

20. Alanı $144 \pi \text{ cm}^2$ olan kürenin yarıçapının uzunluğu kaç santimetredir?

- A) 3 B) 4 C) 5 D) 6

(500) İNGİLİZCE – 6

1- 20. sorularda boş bırakılan yere uygun gelen kelime ya da ifadeyi işaretleyiniz.

1. The evil queen was ---- a jealous woman that she always envied Snow White's beauty.

- A) so B) very
C) such D) much

2. I'm ---- happy to see you again here.

- A) quite B) such
C) much D) many

3. There was ---- for me to sit in the conference room.

- A) there B) where
C) nowhere D) anywhere

4. The princess lives in a big castle ---- is made of gold.

- A) who B) what
C) when D) which

5. He helped a woman ---- car had broken down.

- A) whose B) which
C) that D) who

6. ---- the sun was shining, it wasn't warm enough.

- A) Although B) As soon as
C) Because D) After

7. He walked slowly ---- he hurt his leg.

- A) although B) because
C) while D) then

8. She hasn't got a car. So, she ---- goes to work by bus.

- A) never B) rarely
C) seldom D) always

9. The young boy hasn't been walking ---- he had an accident.

- A) for B) since
C) so far D) recently

10. She is playing the piano excellently ---- .

- A) a week ago B) yesterday
C) at present D) tomorrow

11. Please listen ---- . The teacher is giving very important knowledge about the matter.

- A) pretty B) simply
C) excellent D) carefully

12. Many African countries ---- from Ebola virus for more than six months.

- A) have been suffering
B) had suffered
C) is suffering
D) suffered

13. This time next week, I ---- on the beach in Hawaii.

- A) have been sunbathing
B) will be sunbathing
C) had sunbathed
D) to sunbathe

14. If I ---- you, I would start looking for another job.

- A) am B) was
C) were D) had been

15. If anyone calls, ---- them I'm not at home.

- A) would tell B) will tell
C) had told D) tell

16. If you mix yellow and blue, ---- .

- A) they would melt
B) you get green
C) they had sunk
D) it could fly

17. If you throw that glass vase, it ---- .

- A) would become steam
B) will break into pieces
C) becomes ice
D) is getting hot

18. If I were a witch, I ---- .

- A) would fly on my broomstick
B) had done magic with a wand
C) will buy a new expensive car
D) can see everything with a magic ball

19. If they had called the firefighters, they ---- .

- A) can work as firemen
B) would make a huge fire
C) will show their fireplace
D) would have extinguished the fire

20. A: ---- I have the bill, please?
B: Sure.

- A) Did B) Would
C) Could D) Should

3. OTURUM

(500) ALMANCA – 6

1- 18. sorularda boş bırakılan yere uygun gelen ek, kelime ya da ifadeyi işaretleyiniz

1. Das Haus, - - - - du dort siehst, gehört mir.

- A) der B) die
C) dem D) das

2. Die Dame, - - - - aus Griechenland kommt, spricht gut Türkisch.

- A) der B) das
C) die D) um

3. Sie will Deutsch lernen, - - - - es ihr Spaß macht.

- A) damit B) weil
C) als D) denn

4. - - - - ich jung wäre, würde ich eine Weltreise machen.

- A) Wenn B) Wo
C) Wann D) Wie

5. A: Was - - - - Sie - - - - Beruf?
B: Schriftsteller.

- A) aus / von B) ist / aus
C) sei / von D) sind / von

6. - - - - kommt aus Holland.

- A) Nudeln B) Döner
C) Käse D) Kaffee

7. Wenn man kein Geld hat, muss man - - - - .

- A) trinken B) essen
C) arbeiten D) kaufen

8. Montag, Dienstag, - - - -

- A) Mittwoch B) Donnerstag
C) Samstag D) Sonntag

9. Mein Bus fährt - - - - 17.00 Uhr ab.

- A) an B) um C) von D) in

10. Wir wünschten, wir - - - - jetzt am Meer.

- A) hätte B) wäre
C) wären D) sein

11. Meine Eltern glauben, ich und Ahmet - - - - gute Freunde.

- A) sei B) seien
C) ist D) war


12. - - - - du mich doch angerufen.

- A) Wärest B) Hättest
C) Habe D) Sein

13. Ich dachte, sie - - - - mich - - - - .

- A) habe / besuchen
B) sei / besucht
C) hatte / besuchen
D) hätte / besucht

14.



A: Wo ist die Tasche?
B: Die Tasche ist - - - -

- A) unter dem Bett.
B) neben dem Bett.
C) auf dem Bett.
D) zwischen den Betten.

15. fahren, - - - -, gefahren

- A) fuhr B) fährt
C) fahre D) fährst

16. Wir werden in der 11. Klasse eine Reise nach Deutschland - - - - .

- A) gehen B) machen
C) fahren D) fliegen

17. Der Mann, - - - - dieses Auto gehört, kommt aus Istanbul.

- A) dem B) dessen
C) denn D) den

18. Ich bin nicht - - - - stark - - - - Hasan.

- A) als / wie B) so / als
C) wie / so D) so / wie

19. Was macht der Junge?



- A) Behaupten B) Schwimmen
C) Angeln D) Segeln

20. Hangi cümlede fiilin çekimi yanlış?

- A) Die Kinder wäre so gern am Meer.
B) Würdest du mich bitte informieren!
C) Ich dachte, sie würde gerne einkaufen gehen.
D) Ihr würdet gern fernsehen.

(500) FRANZIZCA – 6

1 – 18. sorularda boş bırakılan yere uygun gelen kelime ya da ifadeyi işaretleyiniz.

1. La sœur de ma mère est ma - - - - .

- A) oncle B) grand-mère
C) nièce D) tante

2. - - - - boivent deux litres d'eau par jour.

- A) Elle B) Nous
C) Vous D) Elles

3. OTURUM

3. Yasemin est la sœur de Taner et Taner est - - - - de Yasemin.

- A) la belle-fille B) l'oncle
C) le frère D) le cousin

4. Hier soir, nous - - - - sortis du cinéma à 22 h.

- A) êtes B) sont
C) vont D) sommes

5. A: Tu es veuf?

B: Oui, je suis - - - - . Ma femme est morte il y a trois mois.

- A) mariée B) fiancée
C) célibataire D) veuf

6. L'école est - - - - .

- A) un lieu de travail
B) un lieu de repos
C) un lieu de vacances
D) un lieu pour le mariage

7. Quand tu fais du vélo, - - - - ton casque.

- A) a mis B) mettre
C) mets D) met

8. Ayşegül, nous traversons l'avenue - - - - -moi la main.

- A) donné B) donne
C) donner D) ayant donné

9. En juin, mes parents sont allés - - - - une semaine à la montagne.

- A) sortir B) passer
C) écouter D) finir

10. Il pleut, - - - - votre parapluie.

- A) ouvrez B) mangez
C) fais D) soyez

11. Demet fait de la peinture en - - - - du café.

- A) manges B) boire
C) manger D) buvant

12. En venant, - - - - un litre de lait.

- A) achète B) acheter
C) a acheté D) acheté

13. Bora aime - - - - avec son chien au bord du lac.

- A) se promener
B) comprendre
C) s'appeler
D) connaître

14. - - - - Turquie, les élèves ne vont pas - - - - l'école le samedi et le dimanche.

- A) au / en B) aux / au
C) à / en D) en / à

15. Nous passons à table, - - - - -vous les mains.

- A) laver B) lavez
C) travaillez D) regarde

16. Ne mange pas avec - - - - .

- A) les pieds B) le chapeau
C) les doigts D) les fleurs

17. Ne - - - - couche pas sur les fauteuils.

- A) se B) te C) moi D) toi

18. Le gâteau au chocolat est préparé - - - - ma fille.

- A) de B) des C) par D) en

19. Verilen cümlelerin Fransızca dengini işaretleyiniz.

Cette voiture bleue a été achetée par mon père.

- A) Şu kırmızı arabayı babam satın alacak.
B) Bu mavi araba babam tarafından satın alındı.
C) Bu mavi spor arabayı babam kullanacak.
D) Karşındaki kırmızı araba amcamındır.

20. Verilen cümlelerin Türkçe dengini işaretleyiniz.

Allez donc jouer au basket demain.

- A) Yarın akşam basketbol oynamaya gideceğiz.
B) Yarın sabah basketbol oynayalım.
C) Yarın basketbol oynamaya gitsenize.
D) Yarın sabah basketbol oynamayacağız.

(503) SEÇMELİ TARİH – 3

1. Osmanlı Devleti'nde yasama, yürütme ve yargı yetkileri aşağıdakilerden hangisinde toplanmıştır?

- A) Şeyhülislam
B) Padişah
C) Reisülküttap
D) Veziriazam

2. Aşağıdakilerden hangisi Bizans valilerine verilen isimdir?

- A) Subaşı B) Tekfur
C) Derebey D) Yeniçeri

3. Anadolu, Suriye, Filistin, İran, Irak, Mısır ve Arap Yarımadası'nı içine alan coğrafi bölgeye ne ad verilir?

- A) Orta Asya B) Balkanlar
C) Yakın Doğu D) Avrupa

4. Bizans'a gelebilecek yardımları engellemek amacıyla "Rumeli Hisarı'nı" yaptıran Osmanlı padişahı aşağıdakilerden hangisidir?

- A) Yıldırım Bayezit
B) Orhan Bey
C) Fatih Sultan Mehmet
D) II. Murat

5. Aşağıda verilen şehirlerden hangisi Osmanlı Devleti'ne başkentlik yapmamıştır?

- A) Ankara B) İstanbul
C) Bursa D) Edirne

3. OTURUM

6. Fetret Dönemi'ne son vererek Anadolu'da Türk siyasi birliğini yeniden sağlamaya çalışan Osmanlı padişahı, aşağıdakilerden hangisidir?

- A) Osman Bey
- B) II. Murat
- C) III. Selim
- D) Mehmet Çelebi

7. Osmanlı Devleti'nin ilk daimi ve düzenli ordusu aşağıdakilerden hangisidir?

- A) Yaya ve Müsellemler
- B) Gulam Ordusu
- C) Hassa Ordusu
- D) Nizamıcedit

8. Akdeniz'de Türk üstünlüğünü sağlayan gelişme aşağıdakilerden hangisidir?

- A) Cerbe Deniz Savaşı
- B) Sakız Adası'nın Fethi
- C) Preveze Deniz Savaşı
- D) Kırım'ın fethi

9. Osmanlı Devleti'nde gelirleri sınır boylarındaki askerlere verilen topraklar aşağıdakilerden hangisidir?

- A) Paşmaklık
- B) Ocaklık
- C) Malikane
- D) Yurtluk

10. İstanbul'un fethiyle aşağıdaki devletlerden hangisi sona ermiştir?

- A) Memlük Devleti
- B) Bizans İmparatorluğu
- C) İlhanlı Devleti
- D) Venedik

11. Osmanlı Devleti'nde mülkiyeti gayrimüslimlere ait olan topraklara ne ad verilir?

- A) Haraci toprak
- B) Vakıf toprak
- C) Öşri toprak
- D) Miri toprak

12. Düşman ülkelerine akınlar düzenleyerek bilgi toplamak, ordunun keşif hizmetini yapmak ve düşmanın pusu kurmasını önlemek amacıyla oluşturulan askerî birlik, aşağıdakilerden hangisidir?

- A) Azaplar
- B) Cebeci Ocağı
- C) Akıncılar
- D) Topçu Ocağı

13. Yeni Çağ'da Avrupa'da görülen aşağıdaki gelişmelerden hangisi İspanya ve Portekiz gibi devletlerin gelir kaynaklarını artırmada etkili olmuştur?

- A) Rönesans
- B) Reform
- C) Fransız İhtilali
- D) Coğrafi Keşifler

14. Aşağıdakilerden hangisi Osmanlı'da donanmanın başkomutanı olarak denizcilik işlerinden sorumludur?

- A) Şeyhülislam
- B) Nişancı
- C) Kazasker
- D) Kaptanıderya

15. Reform ilk olarak aşağıdaki kıtalardan hangisinde başlamıştır?

- A) Avrupa
- B) Afrika
- C) Asya
- D) Amerika

16. Kendisine özgü bir üslup geliştirerek üç yüzün üzerinde eser veren ve Türk mimarisini doruk noktasına ulaştıran mimar aşağıdakilerden hangisidir?

- A) Mimar Sinan
- B) Mimar Hayrettin
- C) Mimar Kemalettin
- D) Sedefkâr Mehmet Ağa

17. Aşağıdakilerden hangisi 1535'te Fransa ile imzalanan kapitülasyon anlaşmalarının amaçlarından biridir?

- A) Osmanlı esnafını güçlendirmek
- B) Hristiyan birliğini oluşturmak
- C) Akdeniz ticaretini canlandırmak
- D) Yabancı tüccarların sayısını artırmak

18. Mısır seferi sonucunda Baharat Yolu'nun Osmanlı'nın kontrolüne geçmesi, Osmanlı Devleti'ne en çok hangi alanda katkı sağlamıştır?

- A) Eğitim
- B) Askeri
- C) Ekonomik
- D) Sanat

19. Kanuni Sultan Süleyman zamanında aşağıdaki devletlerden hangisi üzerine sefer düzenlendiği söylenemez?

- A) Almanya
- B) Memlûkler
- C) Macaristan
- D) Avusturya

20. Aşağıdakilerden hangisi Osmanlı Devleti'nde eğitim ve öğretimle ilgili değildir?

- A) İltizam
- B) Medrese
- C) Enderun
- D) Müderris

(504) SEÇMELİ TARİH – 4

1. Aşağıdakilerden hangisi Lale Devri ıslahatlarından biri değildir?

- A) İlk defa çiçek aşısı uygulandı.
- B) İtfaiye bölümü kuruldu.
- C) İlk Türk matbaası açıldı.
- D) İlk Osmanlı medresesi açıldı.

2. Aşağıdaki gelişmelerden hangisi Avrupa ekonomisini güçlendirirken, Osmanlı ekonomisini olumsuz etkilemiştir?

- A) Rönesans
- B) Reform
- C) Fransız İhtilali
- D) Sanayi İnkılabı

3. Fransız İhtilali ile yaygınlaşan aşağıdaki fikirlerden hangisi, çok uluslu imparatorlukların dağılmasına neden olmuştur?

- A) Adalet
- B) Eşitlik
- C) Milliyetçilik
- D) Hürriyet

3. OTURUM

4. Amerika Birleşik Devletleri aşağıdaki antlaşmalardan hangisi ile bağımsızlığını ilan etmiştir?

- A) Versay Antlaşması
- B) Paris Antlaşması
- C) Berlin Antlaşması
- D) Londra Antlaşması

5. Hangi milletten olursa olsun bütün Müslümanları halifenin etrafında birleştirerek Batı emperyalizmine karşı koymayı amaçlayan fikir akımı, aşağıdakilerden hangisidir?

- A) Türkçülük
- B) İslamcılık
- C) Osmanlıcılık
- D) Batıcılık

6. Osmanlı Devleti'nin 18. yüzyılın başlarında izlediği dış politika, aşağıdakilerden hangisidir?

- A) Yeni topraklar fethetmek
- B) Kaybettiği toprakları geri almak
- C) İslam birliğini sağlamak
- D) Amerika'dan yardım almak

7. Osmanlı Devleti'nde başkanlığını Ahmet Cevdet Paşa'nın yaptığı bir komisyon tarafından hazırlanan medeni kanun, aşağıdakilerden hangisidir?

- A) Mecelle
- B) Tanzimat Fermanı
- C) Islahat Fermanı
- D) Senediittifak

8. Osmanlı Devleti'nin I. Dünya Savaşı'nda Doğu'da ilerleyen Rusları durdurmak ve Orta Asya Türk dünyası ile doğru bağlantı kurmak amacıyla açtığı cephe, aşağıdakilerden hangisidir?

- A) Hicaz ve Yemen
- B) Irak
- C) Suriye ve Filistin
- D) Kafkasya

9. Osmanlı Devleti'nde anayasal düzene geçişin ilk aşaması olarak kabul edilen gelişme, aşağıdakilerden hangisidir?

- A) Islahat Fermanı
- B) Senedi İttifak
- C) Tanzimat Fermanı
- D) Teşkilatı Esasiye

10. Osmanlı sınırları içinde yaşayan azınlıklar birçok okul açmıştır. Bu okullar TBMM'nin çıkardığı aşağıdaki hangi kanun ile Millî Eğitim Bakanlığına bağlanmıştır?

- A) Teşkilâtiesasiye
- B) Tevhidi Tedrisat Kanunu
- C) Mecelle
- D) Tekâlif-i Millîye Emirleri

11. Osmanlı Devleti ilk dış borcunu Avrupa'dan aşağıdaki hangi savaş sonrasında almıştır?

- A) Kırım Savaşı
- B) 93 Harbi
- C) I. Dünya Savaşı
- D) Çaldıran Savaşı

12. Osmanlıda dağılmayı önlemek amacıyla, dünyadaki bütün Türkleri bir ülkede, bir devlet sınırları içinde ve bir bayrak altında birleştirmeyi amaçlayan fikir akımı, aşağıdakilerden hangisidir?

- A) Batıcılık
- B) İslamcılık
- C) Osmanlıcılık
- D) Turancılık

13. II. Mahmut'un ayanlarla imzaladığı sözleşme aşağıdakilerden hangisidir?

- A) Mecelle
- B) Tanzimat Fermanı
- C) Islahat Fermanı
- D) Senediittifak

14. I. Dünya Savaşı'nın uzamasına neden olan cephe aşağıdakilerden hangisidir?

- A) Irak Cephesi
- B) Çanakkale Cephesi
- C) Suriye ve Filistin Cephesi
- D) Hicaz ve Yemen Cephesi

15. XVIII. yüzyılda imzalanan aşağıdaki antlaşmalardan hangisi ile Osmanlı Devleti ilk defa halkı Türk ve Müslüman olan bir bölgeyi kaybetmiştir?

- A) Prut Antlaşması
- B) Belgrat Antlaşması
- C) Küçük Kaynarca Antlaşması
- D) Pasarofça Antlaşması

16. Osmanlı Devleti'nde 18. yüzyılda dış ilişkilerin önem kazanması ve diplomasi faaliyetlerinin öne çıkması, aşağıdaki görevlilerden hangisinin önemini artırmıştır?

- A) Nişancı
- B) Reisülküttap
- C) Emir-i Silah
- D) Kazasker

17. Osmanlı Devleti Kuzey Afrika'daki son toprağını aşağıdaki hangi savaş sonucunda kaybetmiştir?

- A) Trablusgarp Savaşı
- B) II. Balkan Savaşı
- C) Kırım Savaşı
- D) Çanakkale Savaşı

18. Aşağıdakilerden hangisi I. Dünya Savaşı sonucunda yenilen devletlerle imzalanan barış antlaşmalarından biri değildir?

- A) Paris Antlaşması
- B) Sevr Antlaşması
- C) Trianon Antlaşması
- D) Versay Antlaşması

19. 1841 Londra Sözleşmesi ile aşağıdaki devletlerden hangisi boğazlarla ilgili ayrıcalıklı konumunu kaybetmiştir?

- A) Avusturya
- B) Rusya
- C) Almanya
- D) İtalya

20. Osmanlı Devleti I. Dünya Savaşı'ndan aşağıdaki hangi antlaşmayı imzalayarak ayrılmıştır?

- A) Lozan
- B) Prut
- C) Mondros
- D) Bükreş

3. OTURUM

(505) SEÇMELİ COĞRAFYA – 3

1. I- Deprem
II- Çiğ
III- Erozyon
IV- Volkanizma

Levha sınırında bulunan bir yerde yukarıdaki doğal olaylardan hangilerinin görülme olasılığı daha yüksektir?

- A) I. ve II. B) II. ve IV.
C) I. ve III. D) I. ve IV.

2. • Hindistan'da bulunan Taç Mahal'in yapımında kullanılmıştır.
• İnce dokulu olduğu için düzleştirilebilir.
• Yapı malzemesi olarak kullanılmaktadır.
• Kolay parlatılabilir.

Yukarıda özellikleri verilen kayaç aşağıdakilerden hangisidir?

- A) Granit B) Mermer
C) Gnays D) Diorit

3. Aşağıdakilerden hangisi tortul kayaların özellikleri arasında gösterilemez?

- A) Oluşumlarında dış kuvvetler etkilidir.
B) İçlerinde fosil bulundurlar.
C) Ufalanma ve taşınma sonucu oluşmuşlardır.
D) Yerkabuğunun derinliklerinde bulunurlar.

4.



A horizonu	→ Bitkilerin tutunduğu katmandır.
B horizonu	→ Mineral madde bakımından zengindir.
C horizonu	→ Yıkama bu katmanda gerçekleşir.
D horizonu	→ Anakaya bu katmandadır.

Yukarıda toprak horizonlarından hangisi hakkında verilen bilgi yanlıştır?

- A) A horizonu B) B horizonu
C) C horizonu D) D horizonu

5. • Karasal iklimin yarı nemli alanlarında görülürler.
• Çayır örtüsü altında gelişirler.
• Humus oranı yüksektir.

Yukarıda özellikleri verilen toprak türü aşağıdakilerden hangisidir?

- A) Çernezyom B) Tundra
C) Alüvyon D) Terra rossa

6. I- Suları kireçlidir.
II- Ülkemizde göller yöresinde yaygındır.
III- Obruk ve polye gibi erime çanaklarında görülür.

Yukarıda özellikleri verilen göl çeşidi aşağıdakilerden hangisidir?

- A) Buzul gölü B) Tektonik göl
C) Karstik göl D) Volkanik göl

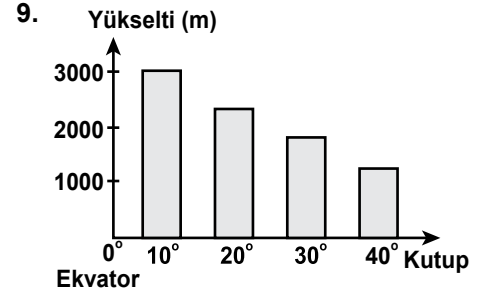
7. I- İklim çeşitliliği fazladır.
II- Ortalama yükseltisi fazladır.
III- Mevsimler belirgin olarak görülür.
IV- Kışın cephesel yağışlar fazladır.

Yukarıda ülkemize ait olarak verilen özelliklerden hangileri ülkemizin matematik konumunun sonucudur?

- A) I. ve II. B) II. ve III.
C) I. ve IV. D) III. ve IV.

8. Aşağıdakilerden hangisi Kuzey Anadolu Dağları içerisinde değildir?

- A) Menteşe Dağları
B) Canik Dağları
C) Kaçkar Dağları
D) Köroğlu Dağları



Grafikte orman üst sınırının enlem değerine göre değişimi gösterilmiştir. Bu durum üzerinde aşağıdakilerden hangisi etkili olmuştur?

- A) Yağış B) Sıcaklık
C) Basınç D) Rüzgar

10. Ege bölgesindeki akarsularımız sağa-sola bükümler yaparak akar. Bu durumun sebebi nedir?

- A) Akarsuyun uzunluğunun fazla olması
B) Buharlaşma miktarının fazla olması
C) Akarsuyun yatak eğiminin azalması
D) Bitki örtüsünün zayıf olması

11. İçerisinde yer altı suyu bulunan tabakaya ne ad verilir?

- A) Gayzer B) Aretezyen
C) Akifer D) Kaynak

12. Dünya nüfusunun büyük çoğunluğu Kuzey Yarımküre'dedir. Bu durum Kuzey Yarımküre'nin hangi özelliğinden kaynaklanmaktadır?

- A) Karaların geniş yer tutması
B) Yaz mevsiminin daha uzun sürmesi
C) Petrol rezervlerinin fazla olması
D) Ulaşım ağının daha gelişmiş olması

13. I- Artezyen kaynağı
II- Fay kaynağı
III- Gayzer kaynağı
IV- Vadi kaynağı

Yukarıdaki kaynaklardan hangilerinin suları sıcaktır?

- A) I. ve II. B) II. ve III.
C) III. ve IV. D) II. ve IV.

3. OTURUM

14. Kıtaların kıyıları iç kısımlarına oranla daha yoğun nüfusludur.

Aşağıdakilerden hangisi bu durumun sebeplerinden değildir?

- A) İklimin uygun olması
- B) Yeraltı kaynaklarının zengin olması
- C) Tarıma elverişli olması
- D) Ulaşım koşullarının uygun olması

15. I- Ekonomik krizler
II- 2. Dünya Savaşı'nın sona ermesi
III- Sağlık ve beslenme alanındaki gelişmeler

Yukarıdakilerden hangileri 1960 yılından sonra dünyada nüfus artış hızının yükselmesinde etkili olmuştur?

- A) Yalnız I. B) Yalnız III.
- C) I. ve II. D) II. ve III.

16. Aşağıdakilerden hangisi kırdan kentlere olan göçün nedenleri arasında gösterilemez?

- A) Sanayileşme
- B) Gecekondulaşma
- C) Tarımda makineleşme
- D) Eğitim hizmetlerinin yetersizliği

17. Gelişmiş ülkelerde nüfus artış hızı genel olarak düşüktür. Bu durumun sebepleri arasında aşağıdakilerden hangisi gösterilemez?

- A) İş gücü ihtiyacının fazla olması
- B) Nüfus planlamasının yapılması
- C) Kadınların çalışma hayatına girmesi
- D) Ekonomik kalkınmanın gerçekleşmesi

18. Aşağıdaki gelişmelerden hangisi Dünya nüfusunda daha hızlı bir artışa neden olmuştur?

- A) Hayvanların evcilleştirilmesi
- B) Tekstil sanayiinin gelişmesi
- C) İletişim araçlarının gelişimi
- D) Yerleşik hayata geçiş

19. I- Beslenme koşullarının iyileşmesi
II- Kadınların çalışma hayatına girmesi
III- Tıp alanındaki ilerlemeler

Yukarıdaki gelişmelerden hangileri dünyadaki nüfus artış hızını düşürmüştür?

- A) Yalnız I. B) Yalnız II.
- C) I. ve II. D) II. ve III.

20. Günümüzde insanların göç etmesine neden olan en önemli faktör aşağıdakilerden hangisidir?

- A) İşsizlik
- B) Kuraklık
- C) Volkanik patlamalar
- D) Nüfus mübadelesi

(506) SEÇMELİ COĞRAFYA – 4

1. Okyanus ve denizlerde meydana gelen depremlerin oluşturduğu dev dalgalara ne denir?

- A) Tsunami B) Gidegen
- C) Formasyon D) Podzol

2. Aşağıdakilerden hangisi köy ve şehir yerleşmelerini birbirinden ayırt eden bir özellik değildir?

- A) Nüfus miktarı
- B) Ulaşım imkânları
- C) Coğrafi konumu
- D) Geçim kaynakları

3. Aşağıdaki şehirlerden hangisinin gelişmesinde yeraltı kaynaklarının etkisi daha fazladır?

- A) Ankara B) Batman
- C) Çanakkale D) Denizli

4. Irmak adaları aşağıdaki akarsulardan hangisinin üzerinde daha çok görülür?

- A) Çoruh
- B) Göksu
- C) Dalaman
- D) Büyük Menderes

5. Dağ ve oluşum şekli arasında aşağıda yapılan eşleştirmelerden hangisi yanlıştır?

Dağ	Oluşum şekli
A) Küre dağları	Kıvrım dağ
B) Ağrı Dağı	Kıvrım dağ
C) Bozdağlar	Kırıklı dağ
D) Erciyes Dağı	Volkanik dağ

6. Aşağıda verilen delta ovalarından hangisi Ege Denizi kıyısındadır?

- A) Bafra B) Sakarya
- C) Bakırçay D) Çukurova

7. Aşağıdakilerden hangisi nüfus ve yerleşmenin dağılımını etkileyen beşeri faktördür?

- A) Sanayi
- B) Sıcaklık
- C) Bitki örtüsü
- D) Dağların uzanışı

8. Aşağıdakilerden hangisi devamlı kır yerleşmesidir?

- A) Oba B) Kom
- C) Yayla D) Divan

9. Rüzgâr aşındırma ve biriktirme şekillerinin iç bölgelerimizde daha çok görülmesinin en önemli nedeni aşağıdakilerden hangisidir?

- A) Arazinin düz olması
- B) Bitki örtüsünün zayıf olması
- C) Yanlış arazi kullanımı
- D) Toplu yerleşmelerin görülmesi

10. Aşağıdakilerden hangisi Türkiye'nin coğrafi konumuna ait doğru bir bilgidir?

- A) Yüzey şekilleri oldukça sadedir.
- B) Önemli petrol üretim alanlarına uzaktır.
- C) Üç kıtanın birbirine yaklaştığı yerdedir.
- D) Yengeç Dönencesi'nin güneyinde yer alır.

3. OTURUM

11. Ülkemizde genel olarak akarsuların akış hızlarının fazla olmasının nedeni aşağıdakilerden hangisidir?

- A) Yatak eğimlerinin fazla olması
- B) Akarsu boylarının kısa olması
- C) Rejimlerin düzensiz olması
- D) Beslenme kaynaklarının çeşitli olması

12. İlbaharda yeşerip yaz boyunca yeşil kalan ot topluluğuna ne denir?

- A) Tundra
- B) Çayır
- C) Psödomaki
- D) Antropojen bozkır

13. Türkiye'nin zengin sıcak su kaynaklarına sahip olmasının nedeni aşağıdakilerden hangisidir?

- A) Üç tarafının denizlerle çevrili olması
- B) Ortalama yükseltisinin fazla olması
- C) Aktif bir tektonik yapıya sahip olması
- D) Geniş bir akarsu ağına sahip olması

14. Türkiye'de toprak çeşitliliğinin fazla olmasında aşağıdakilerden hangisinin etkisi yoktur?

- A) Farklı iklimlerin görülmesinin
- B) Heyelan olaylarının sık yaşanmasının
- C) Arazinin farklı kayalardan oluşmasının
- D) Bitki örtüsünün çeşitlilik göstermesinin

15. Kurak ve yarı kurak bölgelerde su ve rüzgâr erozyonunun etkili olmasının temel nedeni aşağıdakilerden hangisidir?

- A) Bitki örtüsünün zayıf olması
- B) Tarımsal faaliyetlerin yoğun yapılması
- C) Volkanik olayların görülmesi
- D) Arazinin yanlış kullanılması

16. Ülkemizde 1985 yılından sonra nüfus artış hızında azalma görülmektedir.

Aşağıdakilerden hangisi bu durumun nedenleri arasında gösterilemez?

- A) Eğitim düzeyinin yükselmesi
- B) Aile planlaması uygulamaları
- C) İç göçlerin yoğun yaşanması
- D) Kadının iş hayatında yer alması

17. Göç veren yerlerde kadın nüfus erkek nüfustan daha fazladır.

Aşağıdaki şehirlerden hangisi bu duruma örnek gösterilemez?

- A) Sinop
- B) Kırşehir
- C) İzmit
- D) Kastamonu

18. Aşağıdakilerden hangisi kırdan kente göçü önlemede etkili olmaz?

- A) Tarımda makineleşmenin artırılması
- B) Besi ve ahır hayvancılığının geliştirilmesi
- C) Kırsal alanlarda tarıma dayalı sanayinin kurulması
- D) Kırsalda eğitim ve sağlık hizmetlerinin yaygınlaştırılması

19. Aşağıdakilerden hangisi volkanizmanın olumsuz etkilerinden biridir?

- A) Asit yağmurlarını oluşturması
- B) Bazı volkanik arazilerin turistik değer taşıması
- C) Volkanik taşların inşaat sektöründe kullanılması
- D) Volkanik toprakların mineral bakımından zengin olması

20. Aşağıdaki şehirlerden hangisinde çiğ olayı daha sık görülür?

- A) Eskişehir
- B) Samsun
- C) Şanlıurfa
- D) Bingöl

(523) SEÇ. Y. DİL İNG. – 3

1-20. sorularda boş bırakılan yere uygun gelen kelime ya da ifadeyi işaretleyiniz.

1. Do you drink ---- tea every day?

- A) ---
- B) a
- C) an
- D) the

2. Would you like ---- pear or ---- orange?

- A) a / a
- B) a / an
- C) an / a
- D) an / an

3. There isn't ---- cheese in the fridge.

- A) a
- B) any
- C) more
- D) some

4. Ayşe is a bit shy. She hasn't got ---- friends.

- A) much
- B) more
- C) a little
- D) a lot of

5. How ---- sisters and brothers do you have?

- A) many
- B) much
- C) often
- D) long

6. A: What is ---- job?
B: She is nurse.

- A) our
- B) its
- C) his
- D) her

7. I forgot my dictionary at home. Can I borrow ----?

- A) our
- B) yours
- C) mine
- D) your

8. Which one is ---- mobile phone?

- A) we
- B) you
- C) your
- D) yours

3. OTURUM

9. **Ayşe was ill - - - - she went to school.**

- A) so B) for C) but D) and

10. **It is sunny - - - - hot today.**

- A) so B) or C) but D) and

11. **I can speak German very well - - - - I lived in Germany.**

- A) so B) because
C) and D) but

12. **What would you like for dessert? Do you want ice-cream - - - - apple pie?**

- A) or B) so C) yet D) and

13. **- - - - your father work in an office?**

- A) Do B) Are
C) Does D) Is

14. **The clouds are black. It is going to - - - - .**

- A) rain B) fall
C) call D) come

15. **My mum and dad are - - - - in the garden at the moment.**

- A) to talk B) talking
C) talked D) talk

16. **Be careful! You are going to - - - - .**

- A) stay at home
B) read a book
C) fall down
D) sit down

17. **Money - - - - uncountable.**

- A) are B) be C) am D) is

18. **A: - - - - do you go to school?
B: I go to school by bus.**

- A) Where B) Why
C) How D) Who

19. **A: - - - - are you going?
B: To my bedroom.**

- A) Whom B) Where
C) When D) What

20. **My father is a carpenter. He made a - - - - .**

- A) small round wooden coffee-table
B) round small wooden coffee-table
C) wooden round small coffee-table
D) wooden small round coffee-table

(523) SEÇ. Y. DİL ALM. - 3

1- 16. sorularda boş bırakılan yere uygun gelen ek, kelime ya da ifadeyi işaretleyiniz

1. **Ich habe nicht gedacht, - - - - euer Haus so schön ist.**

- A) dass B) und
C) aber D) denn

2. **Ich bin krank, - - - - ich muss arbeiten.**

- A) denn B) weil
C) dass D) aber

3. **A: Wo ist dein Bruder?
B: Er ist - - - - Freundin.**

- A) zu seinen B) nach seine
C) bei seiner D) in seinem

4. **Ich muss heute - - - - 20 Uhr arbeiten.**

- A) bis B) von C) am D) ins

5. **A: Wann - - - - du gekommen?
B: Gestern - - - - ich gekommen**

- A) bin / bist B) bist / bin
C) ist / seid D) seid / ist



Die Brille liegt - - - - Büchern.

- A) in den B) über dem
C) unter das D) zwischen den

7. **Morgens - - - - ich früh - - - - .**

- A) bleibe / liegen
B) steht / auf
C) stehe / auf
D) liege / bleibe

8.



Ich komme aus Frankreich. Ich bin - - - - .

- A) Franzose B) Französin
C) Französisch D) Frankreich

9. **A: - - - - ?
B: Es ist regnerisch.**

- A) Wie ist das Wetter?
B) Scheint die Sonne?
C) Was ist das?
D) Wie geht es dir?

10. **A: - - - - gehst du?
B: - - - - Ayşe.**


- A) Wo / Bei
B) Zu wem / Zu
C) Zu wem/ Nach
D) Wohin / Nach

3. OTURUM

11. A: Wohin gehst du morgen?
B: Ich gehe - - - - Theater.

- A) ins B) nach
C) bei D) in

12.



Das Kind legt sich - - - - Teppich.

- A) neben den B) auf den
C) in dem D) über dem

13. Ich brauche - - - - Schuhe, weil meine Schuhe zu alt sind.

- A) neue B) neu
C) alt D) älter

14. Hans holt ein Taschentuch aus - - - - Tasche.

- A) die B) das
C) der D) den

15. Ich wusste nicht, - - - - Ayşe deine Schwester ist.

- A) dass B) weil
C) denn D) aber


16. A: Kannst du - - - - mir Tischtennis spielen?
B: Ja, kann ich.

- A) um B) denn
C) dass D) mit

17. Aşağıdakilerden hangisi bileşik isim değildir?

- A) Kindergarten
B) Bücherwurm
C) Badetuch
D) Besonderheit

18. Wie ist das Wetter?



- A) Regnerisch. B) Wolkig.
C) Sonnig. D) Windig.

19. "Ich werde nächste Woche nach Antalya gehen." cümlesi hangi zamanı ifade eder?

- A) Präsens B) Futur
C) Perfekt D) Präterium

20. Aşağıdakilerden hangisi bileşik isimdir?

- A) Tisch
B) Kindergarten
C) Krankheit
D) Schüler

(523) SEÇ. Y. DİL FRAN. – 3

1 – 15. sorularda boş bırakılan yere uygun gelen kelime ya da ifadeyi işaretleyiniz.

1. - - - - ont deux chats et deux chiens.

- A) Nous B) Vous
C) Elle D) Ils

2. - - - - sommes montées sur la tour Galata.

- A) Ils B) Nous
C) Elle D) Vous

3. L'ancien président et l'ex-premier ministre Süleyman Demirel - - - - a gouverné la Turquie pendant plus de onze ans est mort à Ankara.

- A) que B) où
C) qui D) dont

4. Mon frère est né en 1979 - - - - il n'y avait pas de télé-couleurs.

- A) où B) qui
C) dont D) donc

5. Le jeune - - - - je regarde porte une veste en laine.

- A) dont B) qui
C) que D) où

6. - - - - il pleut, Jean met toujours des bottes.

- A) Quand B) Quelle
C) Pourquoi D) Combien

7. Jean s'est promené dans les rues de Bodrum - - - - deux mois.

- A) aux B) il y a
C) au D) dans

8. Ma fille aime faire du - - - - dans les Alpes.

- A) musique B) natation
C) marche D) ski

9. - - - - Paul ira à la campagne pour observer les insectes.

- A) Demain B) Le mois dernier
C) Hier D) Pendant

10. La ville - - - - tu parles est au nord de la Turquie.

- A) que B) qui
C) où D) dont

11. Les jeunes boivent du café - - - - le match de basket à la télé.

- A) écouter B) en regardant
C) en buvant D) regarder

12. Le professeur - - - - porte une cravate en soie.

- A) parler B) en jouant
C) venant D) mange

3. OTURUM

13. Le week-end, je lis un roman en - - - - du café au lait.

- A) voyageant B) sachant
C) dansant D) buvant

14. Elles ne vont pas - - - - la bibliothèque - - - - métro.

- A) au / en B) à / à
C) à / en D) en / aux

15. Pour acheter des médicaments, je vais à - - - - .

- A) la pharmacie
B) la librairie
C) la papeterie
D) la charcuterie

16. "Mon oncle et son fils aîné sont partis pour l'Espagne." cümlesinde altı çizili sözcüklerin yerine aşağıdaki şahıs zamirlerinden hangisi konulabilir?

- A) Nous B) Ils
C) Vous D) Elles

17 - 18. sorularda verilen cümlelerin Türkçe karşılığını işaretleyiniz.

17. J'ai appris le français en étudiant deux ans à Paris.

- A) Paris'te iki yıl okuyarak Fransızca'yı öğrendim.
B) Paris'te hem çalıştım hemde okudum.
C) Paris'te bir yılda Fransızca'yı şöyle böyle öğrendik.
D) Bir yıl kaldığım Paris'te Fransızca'yı öğrenemedim.

18. Dora boit du lait en regardant le dessin animé.

- A) Dora odasında film izlerken uyumuş.
B) Dora yatmadan önce mutlaka süt içerdi.
C) Dora çizgi film izlerken süt içiyor.
D) Dora çizgi film izlerken sütünü döktü.

19 - 20. sorularda verilen cümlelerin Fransızca karşılığını işaretleyiniz.

19. Bahçede ağlayan çocuk yeğenimdir.

- A) La fille dansant dans la rue est ma nièce.
B) Le garçon pleurant dans le jardin est mon neveu.
C) Le garçon jouant au foot est mon neveu.
D) Le garçon brun faisant du vélo est mon fils.

20. Yitirdiği cüzdanını sokakta buldu.

- A) On m'a volé mon portefeuille dans la rue.
B) Il a vu son amie en rentrant de la banque.
C) Il a retrouvé son portefeuille dans la rue.
D) Elle a perdu son sac en rentrant de la banque.

(526) SEÇ. Y. DİL İNG. - 6

1-20. sorularda boş bırakılan yere uygun gelen kelime ya da ifadeyi işaretleyiniz.

1. I hate hamburger. I - - - - eat hamburger.

- A) never B) often
C) always D) usually

2. It is 8 o'clock. I'm having breakfast - - - - .

- A) today
B) yesterday
C) every week
D) at the moment

3. - - - - I arrive home, I will call you.

- A) Who B) When
C) While D) Where

4. - - - - I went to work, I had my breakfast.

- A) Because B) Before
C) While D) As

5. - - - - I saw the accident, I called an ambulance.

- A) As soon as B) Although
C) Before D) As

6. Ali is happy - - - - he has got a lot of problems.

- A) if B) after
C) before D) although

7. You get orange - - - - you mix red and yellow.

- A) although B) before
C) if D) as

8. The baby hasn't been sleeping - - - - two hours.

- A) after B) since
C) for D) if

9. - - - - I have a piece of cake, please?

- A) May B) Did
C) Have D) Should

10. The film was - - - - boring that I left earlier.

- A) such B) much
C) that D) so

11. You should answer all the exam questions - - - - .

- A) softly B) loudly
C) correctly D) unhappily

12. My mother has been - - - - the house all day.

- A) studying B) cleaning
C) making D) coming

3. OTURUM

(526) SEÇ. Y. DİL ALM. – 6

1- 17. sorularda boş bırakılan yere uygun gelen ek, kelime ya da ifadeyi işaretleyiniz

13. Don't call me. I will be - - - - in my office.

- A) writing B) singing
C) working D) speaking

14. If I - - - - you, I - - - - listen to my parents' advice.

- A) were / would
B) am / would
C) were / can
D) was / can

15. I - - - - to work when I was younger but now I go to work by car.

- A) can walk
B) might walk
C) should walk
D) used to walk

16. This time next year I - - - - a holiday in our summer house.

- A) had
B) have
C) to have
D) will be having

17. The woman - - - - ring has been stolen is very unhappy.

- A) whose B) who
C) where D) which

18. The book - - - - I read was very interesting.

- A) who B) which
C) whose D) where

19. If I were rich, - - - - .

- A) I can walk in the street
B) I would have eaten a lot
C) I would help poor people
D) I will swim in the pool

20. If you had asked, - - - - .

- A) I answered you
B) I will answer you
C) I would answer you
D) I would have answered you

1. Wenn Eva singen könnte, - - - - sie mit uns singen.

- A) würde B) wäre
C) hätte D) sei

2. Ich habe Hunger. Komm - - - - uns essen gehen.

- A) wir B) lass
C) ist D) sei

3. Mittwoch, - - - -, Freitag

- A) Dienstag B) Samstag
C) Sonntag D) Donnerstag

4. A: - - - - dauert das Spiel im Theater?
B: 40 Minuten.

- A) Wie lange B) Wo
C) Wann D) Wie oft

5. Ist das der Mann, - - - - Schwester gewonnen hat.

- A) die B) den
C) dem D) dessen

6. - - - - du doch gesagt, dass du Hilfe brauchst! Ich hatte viel Zeit.

- A) Wärest B) Hättest
C) Habe D) Sein

7. Dort steht die neue Lehrerin, - - - - Mathe unterrichtet.

- A) die B) der C) das D) den

8. Man sagt, wir - - - - eine sehr nette Familie.

- A) seiest B) sei
C) seien D) seiet

9. Ich habe - - - - . Komm lass uns essen gehen.

- A) Schule
B) Zahnschmerzen
C) Durst
D) Hunger

10. Die Nudeln, - - - - aus Italien kommen, sind sehr berühmt.

- A) ist B) die C) der D) das

11. Ich habe gehört, er - - - - wieder in Berlin.

- A) sei B) seist
C) seien D) sein

12. Wenn ich Zeit hätte, - - - - ich tanzen gehen.

- A) würde B) wärest
C) würden D) wäre

13. Die Kinder, - - - - auf dem Spielplatz spielen, sind sehr laut.

- A) dem B) der
C) die D) das

14.



A: Ist Döner eine Spezialität aus der Türkei?

B: - - - - .

- A) Eine Spezialität aus Holland.
B) Nein, Döner ist eine Spezialität aus der Türkei.
C) Ja, Döner ist eine Spezialität aus der Türkei.
D) Keine Spezialität aus der Türkei.

15. Nurcan kommt - - - - Istanbul.

- A) zu B) aus
C) in D) bei

3. OTURUM

16. Sie ist krank, sie geht - - - - Arzt.

- A) im B) zum
C) beim D) bei

17. Was macht die Hausfrau? Sie kauft im Supermarkt - - - - .

- A) an B) ein
C) aus D) mit

18. Hangi kelimenin Almanca karşılığı doğru verilmiştir?

- A) bakmak = nähən
B) dikmek = radieren
C) silmek = schauen
D) yazmak = schreiben

19. Was ist das?



- A) Ein Flugzeug.
B) Ein Verkehrsunfall.
C) Ein Transport.
D) Ein Schriftsteller.

20. Was macht der Mann?



- A) Segeln. B) Schwimmen.
C) Angeln. D) Behaupten.

(526) SEÇ. Y. DİL FRAN. – 6

1 – 18. sorularda boş bırakılan yere uygun gelen kelime ya da ifadeyi işaretleyiniz.

1. Le frère de mon père est mon - - - - .

- A) tante B) grand-père
C) oncle D) nièce

2. A : Qu'est-ce qu'un - - - - ?
B : C'est quelqu'un qui défend les droits de son client.

- A) coiffeur B) chirurgien
C) avocat D) photographe

3. - - - - buvons trois tasses de café au lait par jour.

- A) Nous B) Elle
C) Je D) Ils

4. A: Sema n'est pas mariée?
B: Si, elle est - - - - . Elle a deux fils.

- A) célibataire B) fiancée
C) veuve D) mariée

5. Ce matin, elles - - - - parties pour Antalya.

- A) ont B) sont
C) vont D) êtes

6. La faculté de médecine est - - - - .

- A) un lieu de repos
B) un lieu de travail
C) un lieu de vacances
D) un lieu pour le mariage

7. Quand vous prenez votre voiture, - - - - votre ceinture.

- A) mettez B) a mis
C) mette D) met

8. Nilgün, on traverse la rue - - - - -moi la main.

- A) donné B) ayant donné
C) donner D) donne

9. Hier, Caroline - - - - chez le médecin.

- A) est allée B) est allé
C) es allée D) suis allé

10. Il fait très froid - - - - votre manteau.

- A) suivez B) mettez
C) mangez D) allez

11. Les enfants regardent la télévision en - - - - du lait.

- A) boire B) boivent
C) buvant D) manger

12. En venant, - - - - du beurre.

- A) acheté B) acheter
C) a acheté D) achète

13. Tansu aime - - - - à la piscine le dimanche.

- A) mettre B) comprendre
C) nager D) connaître

14. Les Dupont sont allés plusieurs fois - - - - États-Unis.

- A) aux B) au
C) à D) en

3. OTURUM

15. Nous passons à table, - - - -
-vous les mains.

- A) parler B) lavez
C) parlez D) laver

16. Ne mangez pas avec - - - - .

- A) le ventre B) les doigts
C) les jambes D) le cou

17. Chez ta tante, - - - - sage!

- A) aie B) toi
C) ayons D) sois

18. Le dîner est servi - - - - ma fille.

- A) par B) au
C) des D) en

19. Verilen cümlelerin Türkçe dengini
işaretleyiniz.

**Ahmet a acheté cette voiture
bleue.**

- A) Ahmet mavi arabasını satmak
istiyor.
B) Bu araba Ahmet tarafından
satın alınacak.
C) Ahmet yeşil arabasını sık sık
yıkıyor.
D) Ahmet bu mavi arabayı satın
aldı.

20. Verilen cümlelerin Türkçe dengini
işaretleyiniz.

**Ces belles fleurs ont été cueilli-
es par Ayşe.**

- A) Ayşe bu güzel çiçeklerin resmini
yapıyor.
B) Ayşe'in topladığı çiçekler mis
gibi kokuyor.
C) Bu güzel çiçekler Ayşe tarafından
toplandı.
D) Şu renk renk çiçekleri Ayşe
getirdi.

(533) HZ. MUHAMMED'İN HAY. – 3

1. Hz. Muhammed'in aşağıdaki ak-
rabalarından hangisi Mekke'de
vefat etmiştir?

- A) Kızı Hz. Fatıma
B) Amcası Hz. Hamza
C) Babası Abdullah
D) Dedesi Abdulmuttalip

2. Aşağıdakilerden hangisinin
Hz. Muhammed'in çocukluk dö-
neminde hizmeti olmamıştır?

- A) Hz. Halime
B) Hz. Hatice
C) Ümmü Eymen
D) Amcasının eşi Fatıma

3. İslam'ın ilk şehitleri olarak bili-
nen sahabiler aşağıdakilerden
hangileridir?

- A) Hz. Bilal - Hz. Ammar
B) Hz. Akil - Hz. Mihca
C) Hz. Sümeyye - Hz. Yasir
D) Hz. Ubeyde - Hz. Umeyr

4. Hz. Muhammed'in "O ölünceye
kadar Kureyş bana dokunamaz-
dı." dediği yakını aşağıdakiler-
den hangisidir?

- A) Amcası Ebu Talip
B) Hanımı Hz. Hatice
C) Amcası Hz. Hamza
D) Dedesi Abdulmuttalip

5. Ahzâb Savaşı olarak da adlan-
dırılan savaş aşağıdakilerden
hangisidir?

- A) Bedir B) Uhut
C) Mute D) Hendek

6. Aşağıdakilerden hangisi
Müslümanların Bizanslı
Hristiyanlarla yaptığı ilk savaştır?

- A) Mute B) Huneyn
C) Hayber D) Hendek

7. Huneyn savaşı aşağıdaki olay-
lardan hangisinin hemen peşin-
den gerçekleşmiştir?

- A) Mekke'nin fethi
B) Medine sözleşmesi
C) Nadiroğulları sürgünü
D) Hudeybiye antlaşması

8. "Ey insanlar! Güç yetireceğiniz
işleri yapın. Zira siz ibadetten
usanmadıkça Allah da sevap yaz-
maktan usanmaz. Allah'ın en çok
hoşuna giden amel, az da olsa
devamlı olanıdır."

**Bu hadiste ibadetle ilgili aşağı-
dakilerin hangisine değinilme-
miştir?**

- A) Mükafatına
B) Kapsamına
C) Sürekli yapılmasına
D) Dengeli yapılmasına

9. Rufeyde, Ümmü Atiyye ve Ümmü
Umere adlı kadın sahabiler aşağı-
daki alanlardan hangisinde yap-
tıkları faaliyetlerle bilinirler?

- A) Eğitim B) Tarım
C) Sağlık D) Ticaret

10. Aşağıdaki ayetlerden hangisinin
konusu diğerlerinden farklıdır?

- A) "Yazık bana, keşke falancayı
dost edinmeseydim"
(Furkan Suresi, 28. ayet.)
B) "... Keşke Karun'a verilen bize-
de verilseydi, O çok şanslı!..."
(Kasas Suresi, 79. ayet)
C) "... O gün inkarcı kişi "Keşke
toprak olsaydım!" diyecektir.
(Nebe Suresi, 40 . ayet.)
D) "... Onlar orada Rabbimiz! Bizi
çıkart (önce) yaptığımızın yeri-
ne iyi işler yapalım diye feryad
ederler ..."
(Fatır Suresi 37. ayet.)

11. İslam öncesi Arap toplumunda
Hz. İbrahim'in tebliğ ettiği dinî
geleneği sürdüren, tevhit inan-
cını benimseyen kimselere ne
ad verilir?

- A) Sabii B) Mecusi
C) Yahudi D) Hanif

3. OTURUM

12. Hz. Muhammed'in babasının ismi aşağıdakilerden hangisidir?

- A) Abdulmuttalip
- B) Abdullah
- C) Kasım
- D) İbrahim

13. Hz. Muhammed'in doğum günü olarak kutlanan kandil aşağıdakilerden hangisidir?

- A) Mevlit Kandili
- B) Berat Kandili
- C) Miraç Kandili
- D) Regaip Kandili

14. Hz. Muhammed Medinelilere İslam'ı öğretmek için aşağıdakilerden hangisini öğretmen olarak göndermiştir?

- A) Ebu Eyyub el-Ensari
- B) Üsâme bin Zeyd
- C) Musab bin Umeyr
- D) Halid bin Velid

15. Aşağıdakilerden hangisi hicret esnasında Peygamberimize yol arkadaşlığı yapmıştır?

- A) Hz. Ebu Bekir
- B) Hz. Osman
- C) Hz. Ömer
- D) Hz. Zeyd

16. Mekke'den Medine'ye hicret edenlere - - - -, Medine'de onları karşılayıp yardım edenlere - - - - denir.

Boş bırakılan yerlere aşağıdaki-lerden hangileri gelmelidir?

- A) Sahabe - Ensar
- B) Muhacir - Ensar
- C) Muhacir - Suffa
- D) Sahabe - Suffa

17. Peygamberimizin sağlıkla ilgili hadislerinin bütününe ne ad verilir?

- A) El-Kanun Fi't-Tıbb
- B) Batn-ı Nahle
- C) Müsned
- D) Tıbb-ı Nebevi

18. "Din kolaylıktır. Hiç kimse dini zorlaştırmaya kalkmasın, ona mağlup olur. O halde doğru yolu takip edin ve orta yolu elden bırakmayın. Müjdeleyin, imrendirin ve kolaylaştırın. Sabah erken kalkarak ve gece serinliğinden ve kuşluk vakitlerinden yararlanarak ibadetlerinizde devamlı olun."

Bu hadiste aşağıdakilerden hangisi vurgulanmaktadır?

- A) İnançta denge
- B) İbadetlerde denge
- C) Duygularda denge
- D) Davranışlarda denge

19. Aşağıdakilerden hangisi "Cahiliye Dönemi'nin" genel özelliklerinden biri değildir?

- A) Putperestlik inancı yaygındı.
- B) Kadın hakları ihlal edilirdi.
- C) Bireysel düşünceye önem verilirdi.
- D) Okur - yazarlık oranı oldukça düşüktü.

20. I- Akabe Biati
II- Habeşistan'a Hicret
III- Müslümanlara boykot uygulanması

Yukarıdaki olayların kronolojik sırası hangi seçenekte doğru verilmiştir?

- A) I - II - III
- B) II - III - I
- C) III - I - II
- D) II - I - III

(534) HZ. MUHAMMED'İN HAY. - 4

1. "Eğer inanmayıp yüz çevirirlerse bilsinlerki biz seni onların üzerine bekçi olarak göndermedik. Sana düşen sadece tebliğdir ..."
(Şura suresi, 48.ayet)

Bu ayette aşağıdakilerden hangisine değilmemiştir?

- A) İnsanların inanmaya zorlanamayacağına
- B) İnanç konusunda herkes kendisinden sorumlu olduğuna
- C) İnsanları Allah'a inandırmanın Müslüman'ın görevi olduğuna
- D) Peygamberlerin vahyi duyurmakla görevli olduğuna

2. "... Burada bulunan bulunmayan bütün Necranlı Hristiyanların canları, malları, inançları ve dini yaşayışları Allah'ın himayesi ve Hz. Muhammed'in koruması altındadır. ..."

(Necranlı Hristiyanlarla Yapılan Anlaşma Metninden)

Hz. Muhammed'in Necranlı Hristiyanlarla yaptığı bu anlaşma metninde aşağıdakilerden hangisine yer verilmemiştir?

- A) İnanç ve ibadet özgürlüğüne
- B) Düşünce ve kanaat özgürlüğüne
- C) Yaşam ve mülkiyet hakkına
- D) Seçme ve seçilme hakkına

3. Aşağıdaki hadislerden hangisinin konusu ekonomi ile ilgili değildir?

- A) İşçinin ücretini alın teri kurumandan ödeyiniz.
- B) Hiçbiriniz kendisi için istediğini kardeşi için istemedikçe iman etmiş olmaz.
- C) Hiç kimse elinin emeğinden daha hayırlı bir yemek yememiştir.
- D) Müslüman bir kimse din kardeşinin pazarlığı üzerine pazarlık yapmasın.

3. OTURUM

4. Huneyn Savaşı dönüşünde ganimet mallarını dağıtan Hz. Muhammed'e birisi "Adil ol!" deyince, Hz Peygamber "Ben adil olmazsam kim adil olabilir?" diye buyurmuştur. Olaya şahit olan sahabe şahsın ifadesine öfkele-nerek onun üzerine yürümek iste-yince Peygamberimiz tarafından engellenmiştir.

Hz. Muhammed'in bu tutumu onun hangi özelliğine örnek gösterilebilir?

- A) İlmine
- B) Cesaretine
- C) Merhametine
- D) Hoşgörüsüne

5. Kendisine "Yahudi kızı denilmesi sebebiyle incinen hanımına Hz. Muhammed: "Sen peygamber soyundan geliyorsun. Amcan peygamberdi ve sen de şu an bir peygamber eşisin. Sana bunu diyenler hangi konuda sana karşı övünüyorlar." diyerek teselli etmiştir.

Bu olayda Peygamberimizin teselli ettiği eşi aşağıdakilerden hangisidir?

- A) Hz. Hatice
- B) Hz. Aişe
- C) Hz. Safiye
- D) Hz. Mariye

6. Aşağıdakilerden hangisi Hz. Muhammed'in iştisare sonucu verdiği bir karar **değildir**?

- A) Kible olarak Kâbe'nin tayini
- B) Şavaşta hendek kazdırması
- C) Uhut'ta meydan savaşına karar verilmesi
- D) Bedir savaşında ordunun yerinin belirlenmesi

7. Medine Sözleşmesi'nin içeriğinde aşağıdakilerden hangisine yer **verilmemiştir**?

- A) Medine'nin birlikte savunulmasına
- B) Her grubun dinini yaşama hakkına sahip olduğuna
- C) Anlaşmazlıklarda Hz. Muhammed'in hakimliğine başvurulmasına
- D) Anlaşmanın geçerliliğinin on yıllara sınırlandırılmasına

8. Kenarı-ı Dicle'de bir kurt aşırsa bir koyunu,
Gelir de adl-i ilahi sorar Ömer'den onu.

M. Akif Ersoy

Bu dizelerde verilmek istenen asıl mesaj aşağıdakilerden hangisidir?

- A) Yöneticiler Allah'a karşı sorumludur.
- B) Yöneticiler sadece halka karşı sorumludur.
- C) Yöneticiler Allah'tan başkasına hesap vermez.
- D) Yöneten ile yönetilen hukuk önünde eşittir.

9. Bir yöneticide aşağıdakilerden hangisinin bulunması **beklenmez**?

- A) Adalet
- B) Tutarlılık
- C) Ehliyet ve Liyakat
- D) İnsan haklarına saygı

10. Aşağıdakilerden hangisi **düşünce ve ifade özgürlüğünün bireysel faydalarındandır**?

- A) Toplumsal hayatı kolaylaştırır
- B) Kültür ve sanatın gelişmesine katkıda bulunur.
- C) Kişiyi kendini ifade etme imkanı sunar.
- D) İstisarenin yaygınlaşmasını sağlar.

11. "Hiçbir mümin hanımına kin beslemesin. Onun bir huyundan hoşlanmazsa belki başka bir huyundan hoşlanır."

Bu hadis aşağıdakilerden hangisini sağlamaya yöneliktir?

- A) Aile birliğinin devamını
- B) Kadın haklarını gözetmeyi
- C) Eşler arası görev paylaşımını
- D) Kadınların ailede aktif olmasını

12. **Peygamberimizin Mescid-i Nebi'nin yanında inşa ettirdiği Suffa aşağıdakilerden hangisiyle ilişkilendirilebilir?**

- A) Sağlık
- B) Devlet idaresi
- C) Eğitim - öğretim
- D) Devlet hazinesi

13. **Ebu Hüreyre** "Ben Allah Resulü'nden daha fazla arkadaşlarıyla istisare eden birini görmedim." **buyuruyor.**

Ebu Hüreyre bu sözülle Peygamberimizin aşağıdakilerden hangisine verdiği önemi vurgulamaktadır?

- A) Eğitime verdiği değer
- B) Hak ve adalete verdiği önem
- C) Hoşgörüyü verdiği önem
- D) İnsanların görüşlerine verdiği önem

14. "Bir Müslümanın izinsiz olarak bir başkasının evinin içini gözetlemesi helal değildir. Böyle yapan günah işlemiş olur."

Bu hadis aşağıdaki haklardan hangisini korumaya yöneliktir?

- A) Eğitim hakkı
- B) Özel yaşamın gizliliği hakkı
- C) Ekonomik hak
- D) Mülkiyet hakkı

15. "De ki hakikat Rabb'inizdendir. Artık dileyen inansın, dileyen inkâr etsin...."

(Kehf suresi, 29. ayet)

Bu ayet aşağıdakilerden hangisine kanıt oluşturur?

- A) Eğitim hakkına
- B) İfade özgürlüğüne
- C) İnanç özgürlüğüne
- D) İbadet özgürlüğüne

3. OTURUM

(608) DEM. ve İNSAN HAK. – 2

16. Aşağıdakilerden hangisi İslam'ın yönetim anlayışını yanıtmaz?

- A) Görev verirken yaşca büyük olanı tercih etmek
- B) İşi ehil olan kimselere vermek
- C) Danışarak iş yapmak
- D) Adaletli davranmak

17. "Size kendi aranızdan öyle bir peygamber geldi ki zahmete uğramanız ona ağır gelir. Kalbi üstünüze titrer..."

(Tevbe suresi, 128. ayet)

Bu ayette peygamberimizin hangi özelliği vurgulanmaktadır?

- A) Adalet
- B) Cesaret
- C) Hoşgörü
- D) Şefkat

18. Hz. Muhammed'in tebliğ metoduunda aşağıdakilerden hangisi yer almaz?

- A) Uyarma
- B) Zorlama
- C) Örnek olma
- D) Kolaylaştırma

19. Aşağıdakilerden hangisi Hz. Muhammed'in tavsiye ettiği ticari ahlak kurallarından değildir?

- A) Kolaylık
- B) Şeffaflık
- C) Dürüstlük
- D) Belirsizlik

20. İslam dini fakir ve kimsesizleri korumayı onların ihtiyaçlarını gidermeyi tavsiye etmiştir.

Aşağıdakilerden hangisi bu tavsiyenin amaçlarından biri olamaz?

- A) Sosyal adaletin sağlanması.
- B) Servetin belli kimselerde toplanması.
- C) Yardımlaşma ve dayanışmanın artması.
- D) Birlik ve beraberlik duygusunun geliştirilmesi.

1. "Din, mezhep, etnik köken, asalet, servet, makam vb. gözetilmeksizin kişilerin yasalar karşısında eşit muamele görmesidir."

Tanımı verilen kavram aşağıdakilerden hangisidir?

- A) Hak
- B) Eşitlik
- C) Ödev
- D) Özgürlük

2. T.C. Anayasası'nda yer alan "Herkes, yaşama, maddi ve manevi varlığını koruma ve geliştirme hakkına sahiptir." ifadesiyle hangi hak anayasal güvenceye kavuşturulmuştur?

- A) Seçme ve seçilme hakkı
- B) Mülkiyet edinme hakkı
- C) Dilekçe hakkı
- D) Yaşama hakkı

3. • Herkesin yasalar karşısında eşit sayılması
• Benzer suçlara benzer cezalar verilmesi

Verilenler aşağıdaki kavramlardan hangisiyle doğrudan ilgilidir?

- A) Adalet
- B) Egemenlik
- C) Laiklik
- D) Kamuoyu

4. Aşağıdakilerden hangisi "hukuk devleti" olmanın gereklindedir?

- A) Ekonomik büyüme ve kalkınma
- B) İdarenin hukuka bağlılığı
- C) Sosyal güvenlik
- D) Gelir adaleti

5. Aşağıdakilerden hangisi TBMM'nin hükümeti denetleme yollarından biri değildir?

- A) Soru
- B) Gensoru
- C) Özel görüşme
- D) Meclis araştırması

6. "Demokrasi" kavramının kelime anlamı aşağıdakilerden hangisidir?

- A) Kuvvetler birliği
- B) Halk iktidarı
- C) Adalet
- D) Devlet

7. Aşağıdakilerden hangisi Rönesans döneminde ortaya çıkan düşüncelerden biri değildir?

- A) Ulus devlet düşüncesi
- B) Liberal devlet anlayışı
- C) Doğal hukuk düşüncesi
- D) Dine dayalı devlet anlayışı

8. Çağdaş toplumlarda halkın doğrudan ülke yönetimine katılması mümkün olmadığından, vatandaşların seçimler yoluyla ve seçilen milletvekilleri aracılığıyla ülke yönetimine belli ölçüde katılmaları sağlanır.

Bu açıklama aşağıdakilerden hangisinin gereğidir?

- A) Çoğulculuk
- B) Sosyal devlet
- C) Temsili demokrasi
- D) Bireysel özgürlük

9. Aşağıdakilerden hangisi siyasi partilerin işlevlerinden değildir?

- A) Halkı eğitmesi
- B) İktidarı eleştirip, denetlemesi
- C) Ülkeyi yönetecek lider kadroları eğitmesi
- D) Farklı düşünce gruplarını birbirine düşürerek toplumda kaos oluşturmaları

3. OTURUM

10. Ülkemizde çok partili ilk seçim hangi yılda yapılmıştır?

- A) 1928 B) 1942
C) 1946 D) 1955

11. Batılı Devletlerin dayatmaları sonucunda 1856 yılında Müslümanlarla gayrimüslümler arasında vergi, eğitim, kamu hizmetlerine katılma gibi konularda farklılık aşağıdakilerden hangisiyle kaldırılmak istenmiştir?

- A) Nizam-ı cedid
B) Sened-i İttifak
C) Birinci meşrutiyet
D) Islahat fermarı

12. Ülkemizde yasaların Anayasa'ya uygunluğu için yargısal denetim aşağıdaki anayasalardan hangisinde ilk kez getirilmiştir?

- A) 1921 B) 1924
C) 1961 D) 1982

13. Birleşmiş Milletler Örgütü hangi yıl kurulmuştur?

- A) 1942 B) 1945
C) 1955 D) 1960

14. Aşağıdakilerden hangisi Birleşmiş Milletler Örgütü bünyesinde yer almaz?

- A) Avrupa Güvenlik ve İşbirliği Teşkilatı
B) İnsan Hakları Komitesi
C) Kadınlara Karşı Ayrımcılığın Kaldırılması Komitesi
D) İşkenceye Karşı Komite

15. Aşağıdakilerden hangisi uluslararası sivil toplum kuruluşlarından değildir?

- A) Türk Demokrasi Vakfı
B) Uluslararası Af Örgütü
C) Uluslararası PEN Kulübü
D) Uluslararası Hukuk Komisyonu

16. Aşağıdakilerden hangisi insan haklarının korunması konusunda demokrasilerde karşılaşılan sorunlardan değildir?

- A) Savaşlar
B) Uluslararası terör
C) Hızlı toplumsal değişme
D) Bölgeler arası kalkınmışlık farklarının giderilmesi

17. Bir toplumda toplumsal yapının bütününe dokunmaksızın eskiyen, güncelliğini kaybeden, toplumun ihtiyaçlarına cevap veremeyen kurum ve kuralların düzeltilmesine ve iyileştirilmesine ne ad verilir?

- A) Reform B) İnkılap
C) Bilimsellik D) Gelenekçilik

18. Aşağıdakilerden hangisi siyasal alanda yapılmış Atatürk inkılaplarından biridir?

- A) Soyadı Kanunu'nun kabul edilmesi
B) Saltanatın kaldırılması
C) Medeni Kanun'un kabulü
D) Harf inkılabı

19. "Halkçılık" ilkesi aşağıdakilerden öncelikle hangisini ifade eder?

- A) Toplumda hiçbir kişiye ya da gruba ayrıcalık tanınmaması
B) Çağdaş medeniyet seviyesinin yakalanması
C) Egemenlik hakkının tek bir kişiye ait olması
D) Din ve devlet işlerinin birbirinden ayrılması

20. Çağın ihtiyaçlarına cevap verebilen sürekli gelişmeye ve değişmeye elverişli bir toplum yapısının oluşturulabilmesini öngören Atatürk ilkesi aşağıdakilerden hangisidir?

- A) Halkçılık
B) Milliyetçilik
C) İnkılapçılık
D) Cumhuriyetçilik

(613) SEÇ. DİL VE ANLA. – 3

1. Aşağıdakilerden hangisi sunumdan önce yapılması gerekenlerden biridir?

- A) Güncel bir konu seçmek
B) Dinleyicilerin sorularını yanıtlamak
C) Ses tonuna, jest ve mimiklere dikkat etmek
D) Mikrofon, projeksiyon gibi teknolojik araçlardan yararlanmak

2. Özel mektuplarda kullanılan dil işlevi aşağıdakilerden hangisidir?

- A) Kanalı kontrol işlevi
B) Heyecana bağlı işlev
C) Dil ötesi işlev
D) Alıcıyı harekete geçirme işlevi

3. "Dükkânları kirli olan on sekiz iş yeri kapatıldı." cümlesindeki anlatım bozukluğunun nedeni aşağıdakilerden hangisidir?

- A) Sözcüğün yanlış anlamda kullanılması
B) Gereksiz sözcük kullanımı
C) Yükleme yanlışlığı
D) Tümleş yanlışlığı

4. Aşağıdaki cümlelerin hangisinde anlatım bozukluğu vardır?

- A) Piknik tüpüyle sepetini ben, diğer iki poşeti kardeşim taşıdı.
B) Askerler yeni siperler kazıp cephedeki yerlerini aldılar.
C) Makinenin bozulan dişlisini tamir etmesi çok uzun sürdü.
D) Sabahın erken saatlerinde uyanan çiftçiler işe koyulmuştu bile.

3. OTURUM

5. İster yazar olsun ister şair, kişi özünde gerçek bir sanatçı cevheri taşıyorsa çağına tanıklık edecektir. Ezimlerin, kıyımların, insanoğluna acı çektirmenin utancını içinde duyacaktır. Yaşadığı zaman diliminden sorumlu tutacaktır kendisini. Bu da ister istemez onu uzlaşmazlığa, uyumsuzluğa ve nihayetinde baş kaldırıya itecektir. Her cümlesinde, her sözcüğünde bunun kalp atışlarını duyuracaktır.

Bu parçadan "sanatçılarla" ilgili aşağıdakilerden hangisi çıkarılamaz?

- A) Eserlerinde yaşadıkları dönemi yansıtırlar.
- B) Daha çok hakkı yenenlerin, acı çekenlerin yanında yer alırlar.
- C) Eserleriyle halka yol gösterirler.
- D) Çevresinde gelişen olaylara karşı duyarlıdır.

6. Dillerini öğrenmek istediğimiz yabancı toplumlar yalnızca teknik ve bilim üreterek gelişmedi. Shakespeare (Şekspir), Victor Hugo, Hegel, Marks ve yüzlerce ne bilgisayar programladılar ne de uzay aracı üzerinde çalıştılar. Toplumsal bilincin bu üstün yaratıcıları ürettikleri zihinsel ürünlerle insanlara yeni değerler kazandırdılar. Onlara düşünme yeteneği ve yöntemleri kazandırdılar. Düşünen, araştıran ve yeni düşünceler üreten insan da bilimi ve tekniği üretti.

Bu parçanın ana düşüncesi aşağıdakilerden hangisidir?

- A) Sanatçıların birçoğu aynı zamanda bilim ve teknolojiyle ilgilenmiştir.
- B) Bilimsel gelişmelerin temelinde sanat alanındaki gelişmeler yatmaktadır.
- C) Sanat, toplumsal huzuru ve barışı sağlamada önemli bir etkidir.
- D) Bilim ve teknoloji için araştırma yapmak ve çok emek harcamak gerekir.

7. Aşağıdaki cümlelerin hangisinde dil, alıcıyı harekete geçirme işlevinde kullanılmıştır?

- A) Doğum günümde bana kitap hediye alın.
- B) Kenan Doğulu güzel bir şarkı bestelemiş yine.
- C) 3. Köprü'de raylı sistemle taşımacılık da yapılacak.
- D) Bu günlerde içim içime sığmıyor, çok mutluyum.

8. Aşağıdakilerden hangisi anlatıların, konuşulanların ana sınırlarını belirtme, bir hikâyenin bütünü veya bir parçasını kısaltma, bir paragrafın, bir gazete veya fikir yazısının ana fikrinin çıkarılmasıdır?

- A) Tema
- B) Plan
- C) Not alma
- D) Özet çıkarma

9. Anlatımda hiç kimseye benzedim, öykünmeden biçim ve içerikte farklı olmaya verilen ad aşağıdakilerden hangisidir?

- A) Bağdaşıklık
- B) Tutarlılık
- C) Özgünlük
- D) Etkileycilik

10. Aşağıdakilerden hangisi yazılı anlatımda konu sınırlandırması yapılırken sorulacak sorulardan biri değildir?

- A) Hangi anlatıcının bakış açısıyla yazılmalıdır?
- B) Yazının hitap edeceği okuyucu kitlesinin özellikleri nelerdir?
- C) Yazının uzunluğu ne kadar olmalıdır?
- D) Konunun hangi yönüne ağırlık verilmelidir?

11. Her gün bu kadar güzel mi bu deniz?

Böyle mi görünür gökyüzü her zaman?
Her zaman güzel mi bu kadar,
Bu eşya, bu pencere?

Orhan Veli Kanık

Bu şiirin teması aşağıdakilerden hangisidir?

- A) Yaşama sevinci
- B) Deniz özlemi
- C) Ayrılık
- D) Hüzün

12. Bir metinde amacın yoğunlaştırılarak yargıya dönüştürülüp bir önerme biçiminde belirmesine - - - - denir.

Bu cümlede boş bırakılan yere aşağıdakilerden hangisi gelir?

- A) tutarlılık
- B) ileti
- C) tez
- D) bağdaşıklık

13. Bir metni oluşturan söz ve söz öbekleri arasındaki anlam ve mantık bağıntısı aşağıdakilerden hangisidir?

- A) İleti
- B) Bağdaşıklık
- C) Yazım
- D) Tutarlılık

14. Aşağıdaki cümlelerin hangisi özeldir?

- A) Ayvalık, Balıkesir sınırları içinde yer alan bir ilçedir.
- B) Bence yaşadığı dönemi yansıtmayan sanatçı kalıcı olamaz.
- C) Filmde ihtiyar bir adamın hayatı anlatılmış.
- D) İstanbul, Türkiye'nin en kalabalık şehridir.

15. Anlatımda anlamı bilinmeyen sözcüklerin kullanılmamasına verilen ad aşağıdakilerden hangisidir?

- A) Duruluk
- B) Özlülük
- C) Tutarlılık
- D) Açıklık

16. Çocukken balon alırdım. Gergin, içi dışı ışıklı, elden kaçınca havanın boşluğunda kaybolan, hidrojen gazıyla dolu balonlardan... Nefesle şişirilenlerden, top oynananlardan değil. Yataarken karyolamın demirlerine bağlardım. Sabahleyin kalkar kalkmaz balonuma bakar ve yatağımdan atırdım.

Bu parçanın anlatımı için aşağıdakilerden hangisi söylenemez?

- A) Dolaylı anlatıma başvurulmuştur.
- B) Somut anlatım ağır basmaktadır.
- C) Birinci kişi anlatımı vardır.
- D) Olaya dayalı bir anlatım vardır.

3. OTURUM

(615) SEÇ. DİL VE ANLA. – 5

17. Aşağıdakilerden hangisi tartışma başkanının görevlerinden biri değildir?

- A) Tartışılan konunun nitelik ve sınırlarının dinleyicilerce anlaşılmasını sağlamak
- B) Söylenmiş düşünceleri ve daha önceden verilen örnekleri tekrarlamak
- C) Tartışma kurallarına uymayanları uyarmak ve bu konu dışına çıkmalarını önlemek
- D) Tartışanların düşüncelerini rahatlıkla söyleyebilecekleri bir ortam yaratmak

18. Bir yazıda işlenen ve geliştirilen görüş, düşünüş ya da duyuş aşağıdakilerden hangisi ile adlandırılır?

- A) Başlık
- B) Konu
- C) Tür
- D) Biçim

19. Aşağıdakilerin hangisinde anlatım bozukluğu yoktur?

- A) İnsanlar yanlış hatalarından ders almalıdır.
- B) Ahmet'in boyu hayli büyümüş.
- C) Saygı ve hürmette kusur etmez.
- D) İşimi en güzel şekilde yapmaya çalışırım.

20. Aşağıdakilerden hangisi "toplular tartışma" çeşitlerinden biridir?

- A) Sunum
- B) Diyalog
- C) Panel
- D) Monolog

1. Aşağıdakilerden hangisi hikâyenin öğelerinden değildir?

- A) Olay
- B) Serim
- C) Zaman
- D) Kişiler

2. Aşağıdakilerden hangisi kişisel hayatı konu alan metinler içerisinde yer almaz?

- A) Röportaj
- B) Günlük
- C) Biyografi
- D) Anı

3. Aşağıdakilerden hangisi anlatmaya bağlı edebî metinlerden biridir?

- A) Karagöz
- B) Roman
- C) Şiir
- D) Dram

4. Aşağıdakilerden hangisi anı türüne ait bir özellik değildir?

- A) Öğretici ve bilgi vericidir.
- B) Yaşanmış olayları konu aldıkları için tarihe ışık tutar.
- C) Olaylar olduğu gibi, abartmadan anlatılır.
- D) Görülenler ve anlatılanlar belgelendirilmek zorundadır.

5. Uzun zamandır görmek istediğimiz Bursa'ya gitmek için bir pazar sabahı İstanbul'dan yedideki otobüse bindik. Üç saatlik bir yolculukla Bursa terminaline vardık. Otobüs terminali, aynı zamanda pek çok markanın ve renk renk tabelaların olduğu kestane şekeri satış yeri diyebileceğimiz bir yer. Terminal çıkışında belediye otobüsleri kalkıyor şehir merkezine. Bunlardan birine binip Ulu Cami'ye gittik. Hedefimiz Uludağ eteklerine kurulan Cumalıkızık'a gidip kahvaltı yapmak ve köyü gezmek.

Bu yazının türü, aşağıdakilerden hangisidir?

- A) Anı
- B) Makale
- C) Gezi yazısı
- D) Deneme

6. Üst makam yetkilisinin alt makamdakine yazdığı bir resmî mektubun son kısmında aşağıdaki ifadelerden hangisi kullanılır?

- A) Arz ederim.
- B) Rica ederim.
- C) Arz ve rica ederim.
- D) Bilgilerinize saygıyla sunarım.

7. Aşağıdakilerden hangisi haber yazılarının özelliklerinden değildir?

- A) İlgili çekici olmak zorunda değildir.
- B) Kolay anlaşılır, akıcı, açık ve duru olmalıdır.
- C) Toplumun büyük bir kısmını ilgilendirmelidir.
- D) Günlük ve önemli olması gerekir.

8. Sakıp Sabancı, 7 Nisan 1933 tarihinde Kayseri'nin Akçakaya Köyü'nde fakir bir çiftçi ailesinin çocuğu olarak dünyaya geldi. Çok genç yaşlarda, bir un fabrikasında veznedarlıkla iş hayatına başladı...

Bu metnin türü aşağıdakilerden hangisidir?

- A) Anı
- B) Fıkra
- C) Makale
- D) Biyografi

9. Gazetelerde; güncel, önemli konuları belgelendirme gereği duymadan kişisel bir görüş olarak açıklayan kısa yazılara - - - - denir.

Bu cümlede boş bırakılan yere aşağıdakilerden hangisi getirilmelidir?

- A) fıkra
- B) makale
- C) eleştiri
- D) otobiyografi

10. Aşağıdakilerden hangisi "günlük"ün özelliklerinden değildir?

- A) Kişiseldir.
- B) Yazıldığı günün tarihini taşır.
- C) Anlatılanlar içtenlikle ifade edilir.
- D) Okuyucu göz önünde bulundularak yazılır.

3. OTURUM

11. Aşağıdakilerden hangisi anlatmaya bağlı edebî metinlerden biri değildir?

- A) Masal B) Destan
C) Şiir D) Hikâye

12. Olay çevresinde gelişen edebî metinler aşağıdakilerin hangisinde doğru gruplandırılmıştır?

- A) Sanat metinleri - Öğretici metinler
B) Bilimsel metinler - Felsefi metinler
C) Anlatmaya bağlı metinler - Göstermeye bağlı metinler
D) Tarihî metinler - Kişisel hayatı konu alan metinler

13. Aşağıdakilerden hangisi geleneksel Türk tiyatrosu metinlerinden biri değildir?

- A) Komedi B) Karagöz
C) Orta oyunu D) Köy tiyatrosu

14. Gerçeklerin; sanatçının hayal, duygu ve düşünce dünyasında yeniden yorumlanması ve şekillenmesiyle oluşan metinler aşağıdakilerden hangisidir?

- A) Sanat metinleri
B) Öğretici metinler
C) Gazete çevresinde gelişen metinler
D) Kişisel hayatı konu alan metinler

15. Yazarın kişisel görüş ve düşüncelerini bir söyleşi havasında anlattığı yazılara verilen ad aşağıdakilerden hangisidir?

- A) Makale B) Anı
C) Eleştiri D) Sohbet

16. Aşağıdaki cümlelerin hangisinde virgül, ara sözleri ayırmak için kullanılmıştır?

- A) Evet, bu sözleri duymak beni mutlu etti.
B) Matematik, fizik gibi sayısal derslere ilgi duyuyorum.
C) Beklenmedik bir anda, bunu bilmeliydik, çıkıp geldi.
D) Sevgili dostum, artık seni de aramızda görmek istiyorum.

17. Aşağıdakilerden hangisi dilekçe yazılırken dikkat edilmesi gereken hususlardan değildir?

- A) Dilekçenin verildiği kurumun adı başa yazılmalıdır.
B) İstekler uzun ve ayrıntılı olarak anlatılmalıdır.
C) Anlatımın yalın ve duru olmasına özen gösterilmelidir.
D) Bilgisayar, daktilo veya mürekkepli dolma kalemle yazılmaktadır.

18. İnsanın iç dünyasının gizli kalmış yönlerini, erişilmesi güç bir saydamlıkla yansıtan yapılarıyla 20. yy. roman anlayışı üzerinde derin ve evrensel bir etki bırakmıştır. "Suç ve Ceza" romanıyla dünya çapında ün kazanmıştır.

Bu parçada sözü edilen yazar, aşağıdakilerden hangisidir?

- A) Shakespeare
B) Dostoyevski
C) Moliere
D) Tolstoy

19. Aşağıdakilerin hangisinde "ki" ayrı yazılmalıdır?

- A) O kadar öfkeliydi ki kendini tutamadı.
B) Benim basketbol topum bahçede, seninki nerede?
C) Sokaktaki adamı gördün mü?
D) Kendisindeki yeteneklerin farkına vardı.

20. Türk edebiyatındaki ilk makale aşağıdakilerden hangisidir?

- A) Tahrib-i Harabat
B) Tercüman-ı Ahval Mukaddimesi
C) Paris Sefaretnamesi
D) Babürname

(616) SEÇ. DİL VE ANLA. – 6

1. Aşağıdakilerden hangisi etkili söz söyleme sanatına verilen isimlerden değildir?

- A) Söylev B) Hitabet
C) Hatip D) Nutuk

2. Aşağıdakilerin hangisi söylevin özelliklerinden değildir?

- A) Tiyatroyla birlikte gelişmiştir.
B) Etkili, heyecanlı ve açık cümlelerle bitirilir.
C) Alınan cevaplar aynen ve yorumlanmadan yayımlanır.
D) Dinleyicilerin zevk, kültür düzeyleri ve gereksinimleri konuşmacı tarafından dikkate alınır.

3. • Metinler öğretici ve ufuk açıcıdır.
• Alınan cevaplar, aynen ve yorumlanmadan yayımlanır.
• Alanında tanınmış kişilerle yapılır.
• Genelde söyleşmeye bağlı anlatım türü kullanılır.

Bu bilgiler aşağıdaki yazı türlerinden hangisine aittir?

- A) Makale B) Sohbet
C) Mülakat D) Söylev

4. Genellikle parlamentolarda, diplomatik toplantılarda söylenen söylev türü aşağıdakilerden hangisidir?

- A) Akademik söylev
B) Askerî söylev
C) Dinsel söylev
D) Siyasi söylev

5. Aşağıdakilerden hangisi röportajlarda yararlanılan anlatım türlerinden biri değildir?

- A) Öğretici B) Fantastik
C) Kanıtlayıcı D) Betimleyici

3. OTURUM

6. Aşağıdakilerden hangisi mülakatın anlamlarından değildir?

- A) Yazışma B) Buluşma
C) Görüşme D) Konuşma

7. Mülakat yapacak kişi için aşağıdakilerden hangisi söylenemez?

- A) Sabırlı, dikkatli ve nazik olmalıdır.
B) Hep kendisi konuşarak karşısındakini sıkmamalıdır.
C) Konuşacağı kişi ve konu hakkında önceden bilgi edinmelidir.
D) Görüşme zamanını kendisi belirleyerek mülakat yapacağı kişiye bildirmelidir.

8. Aşağıdakilerin hangisi öğretici metin türlerinden biri değildir?

- A) Röportaj B) Makale
C) Roman D) Biyografi

9. Aşağıdakilerden hangisi röportajın özelliklerinden biri değildir?

- A) Okuyucunun dikkatini çekecek ve onları düşündürecek biçimde düzenlenir.
B) Sanatçıyı, dönemi veya okuyucuyu değerlendirmek amacıyla kaleme alınır.
C) Konuyu çarpıtmadan belgesel olarak okuyucuya sunmak ve kamuoyunu aydınlatmak hedeflenir.
D) Röportajda önemli olan, birçok kişinin gördüğü ve bildiği şeyleri ustaca dile getirmektir.

10. Aşağıdakilerden hangisi eski Yunan edebiyatının tanınmış söylevcisidir?

- A) Cicero
B) Moliere
C) Robespierre
D) Demosthenes

11. Aşağıdakilerin hangisinde "Onuncu Yıl Söylevi"yle ilgili bir bilgi yanlıştır?

- A) Söylevci, Mustafa Kemal Atatürk'tür.
B) On yıllık cumhuriyetin değerlendirilmesidir.
C) Yol gösterici ve uyarıcı bir söylevidir.
D) Konu olarak hukuksal söylevin alanına girer.

12. Söylevde amaç aşağıdakilerden hangisidir?

- A) Dinleyenleri kendi düşüncesinden yana çekmek
B) Değişik konularda yetenekleri geliştirmek
C) Alanında tanınmış bir kişiyi anlatmak
D) Cümleleri kısa, yalın ve açık seçmek

13. "Boş Beşik" ve "Susuz Yaz" adlı eserler aşağıdaki sanatçılardan hangisine aittir?

- A) Nurullah Ataç
B) Salâh Bırsel
C) Necati Cumalı
D) Orhan Pamuk

14. Aşağıdakilerden hangisi II. Meşrutiyet'te yetişen en tanınmış söylevcilerden biridir?

- A) Ziya Paşa
B) Necati Cumalı
C) Recaizâde Mahmut Ekrem
D) Hamdullah Suphi Tanrıöver

15. "Sesi topluluğun sesine dönüştürme, coşturma, toplulukta duygusal doruklar ve insanda tartışma atmosferi yaratma" aşağıdaki türlerden hangisinin önemli işlevlerinden biridir?

- A) Tiyatro B) Destan
C) Söylev D) Masal

16. Yazarın okuyucularını inandırmak için bir konu, eşya ya da bir yerle ilgili olarak yaptığı incelemeleri, değişik boyutlarıyla ele alıp kendi görüşlerini de katarak yazdığı gazete ve dergi yazılarına - - - - denir.

Bu parçada boş bırakılan yere aşağıdakilerden hangisi getirilmelidir?

- A) eleştiri B) röportaj
C) fıkra D) söylev

17. Ünlü kişilerle, uzmanlarla yapılan görüşmeleri sorulu-cevaplı olarak aktaran yazılara verilen ad aşağıdakilerden hangisidir?

- A) Röportaj B) Mülakat
C) Eleştiri D) Söylev

18. Mülakatta özellikle dilin aşağıdaki işlevlerinden hangisi kullanılır?

- A) Şiirsel işlev
B) Dil ötesi işlevi
C) Alıcıyı harekete geçirme işlevi
D) Kanalı kontrol işlevi

19. Aşağıdakilerden hangisi edebiyatımızda tanınmış mülakat yazarlarından değildir?

- A) Behçet Kemal Çağlar
B) Mustafa Baysal
C) Hikmet Feridun Es
D) Ruşen Eşref Üneydin

20. Kişinin anlattıklarının ve söylediklerinin bir önceki anlattıkları ve söyledikleriyle çelişmesine verilen ad aşağıdakilerden hangisidir?

- A) Tutarlılık B) Açıklık
C) Yalınlık D) Özlülük

3. OTURUM

(623) SEÇ. TÜRK ED. – 3

1. Ülkemizde Batılı anlamda edebiyat tarihi çalışmaları Tanzimat Dönemi'nde başlar. Bu alandaki ilk kapsamlı çalışma, yazarın 1928 yılında yayımladığı "Edebiyat Tarihi" adlı eseridir. Türk edebiyat tarihinin kurucusu sayılır.

Bu paragrafta sözü edilen yazar aşağıdakilerden hangisidir?

- A) Ahmet Hamdi Tanpınar
- B) Nihat Sami Banarlı
- C) Şükran Kurdakul
- D) Fuat Köprülü

2. Eski Türkçede "sav" olarak adlandırılan özlü sözlerin günümüzdeki karşılığı aşağıdakilerden hangisidir?

- A) Atasözü
- B) Deyim
- C) Vecize
- D) Cümle

3. Etil suvu aka turur
Kaya tübi kaka turur
Balık telim baka turur
Kölüng takı küşerür

Koşuktan alınmış bu dörtlüğün uyak düzeni aşağıdakilerden hangisidir?

- A) aaaa
- B) aaab
- C) abab
- D) aabb

4. Aşağıdakilerden hangisi "koşuk"un tanımıdır?

- A) Ölen bir kişinin ardından onun iyi yönlerini anlatan şiirlerdir.
- B) Doğa güzellikleri ve aşk konulu şiirlerdir.
- C) Az sözle çok anlam ifade eden özlü sözlerdir.
- D) Savaş, yiğitlik, doğal afet gibi önemli olayların etkisiyle söylenmiş şiirlerdir.

5. Aşağıdakilerden hangisi İslamiyet'ten sonraki Türk destanlarından biridir?

- A) Köroğlu Destanı
- B) Bozkurt Destanı
- C) Ergenekon Destanı
- D) Alp Er Tunga Destanı

6. "İlyada" ve "Odyssea" destanlarının derleyicisi aşağıdakilerden hangisidir?

- A) Sophokles
- B) Aiskhilos
- C) Homeros
- D) Euripides

7. Aşağıdakilerden hangisi Türk halk edebiyatının bölümlerinden biri değildir?

- A) Anonim
- B) Dinî-tasavvufi
- C) Âşık tarzı
- D) Klasik

8. Tarihte Türk sözcüğünün ilk kez geçtiği metin aşağıdakilerden hangisidir?

- A) Divanü Lügati't Türk
- B) Oğuz Kağan Destanı
- C) Göktürk Kitabeleri
- D) Alp Er Tunga Sagusu

9. Orhun Yazıtları'ndan söz eden ilk kaynak, aşağıdakilerden hangisidir?

- A) Kutadgu Bilig
- B) Tarih-i Cihanküşa
- C) Atabetü'l Hakayık
- D) Divanü Lügati't Türk

10. Aşağıdaki eser-yazar eşleştirmelerinden hangisi doğrudur?

- A) Kurtuluş Savaşı Destanı - Nazım Hikmet
- B) Çakır'ın Destanı - Cahit Külebi
- C) Sakarya Meydan Savaşı - Gülten Akın
- D) Berlin Üçlemesi - Melih Cevdet Anday

11. "Şaman, oyun, baksı, ozan" gibi adlar, Türk boyları arasında kimin için kullanılmıştır?

- A) Hükümdar
- B) Şair
- C) Asker
- D) Kahraman

12. İslamiyet Öncesi Türk Edebiyatı'yla ilgili olarak aşağıdaki bilgilerden hangisi yanlıştır?

- A) Yabancı etkilerden uzaktır.
- B) Sözlü ve yazılı olmak üzere iki koldan gelişmiştir.
- C) Kalyanamkara ve Papamkara hikâyesi Uygurlara ait metinlerdir.
- D) Gazel ve kaside edebiyat ürünleri arasındadır.

13. Aşağıdaki seçeneklerden hangisi "sagu" nun tanımıdır?

- A) Şairlerin kendilerini övmek için yazdıkları şiirlerdir.
- B) Yaşayan devlet büyüklerini övmek için yazılan şiirlerdir.
- C) Herkes tarafından sevilen kimselerin ölümüne duyulan üzüntüyü ifade eden şiirlerdir.
- D) Sevgi, tabiat, güzellik gibi konuların işlendiği ve bir ezgiyle okunan şiirlerdir.

14. Başlangıcından itibaren Türklerin kullandıkları alfabeler, hangi seçenekte doğru sıralanmıştır?

- A) Göktürk - Uygur - Arap - Latin
- B) Göktürk - Arap - Uygur - Latin
- C) Uygur - Göktürk - Arap - Latin
- D) Uygur - Göktürk - Kiril - Latin

15. Yeniliğe açık bir padişah olan 3. Ahmet zamanında Batı'ya 40 kişilik bir heyetle gönderilen ve gördüklerini, yaşadıklarını yazdığı bir eserle padişaha sunan Yirmisekiz Mehmet Çelebi'nin bu eserin adı aşağıdakilerden hangisidir?

- A) Berlin Hatıraları
- B) Fransa Sefaretnamesi
- C) Fransa'ya Yolculuk
- D) İstanbul'dan Berlin'e

3. OTURUM

(626) SEÇ. TÜRK ED. – 6

16. “Kalyanamkara ve Papamkara” adlı eser için aşağıdakilerden hangisi söylenemez?

- A) Eserin aslı Sanskritçedir.
- B) Dinsel masal niteliği taşır.
- C) Asıl anlatılmak istenen İslamiyet'tir.
- D) Eserin adı iyi düşünceli prensle kötü düşünceli prensten alınmıştır.

17. Aşağıdaki sanatçılardan hangisi edebiyat tarihi alanında çalışma yapmamıştır?

- A) Ahmet Hamdi Tanpınar
- B) Abdülhak Şinasi Hisar
- C) Agah Sırrı Levent
- D) Nihat Sami Banarlı

18. Bilinen en eski destan aşağıdakilerden hangisidir?

- A) Gılgamış
- B) İlyada
- C) Odysseia
- D) Şu

19. Alp Er Tunga öldi mü
İsiz ajun kaldı mu
Ödlek öçin aldı mı
Emdi yürek yırtılır

Bu şiirin durakları ve ölçüsü aşağıdakilerden hangisidir?

- A) 4+4 = 8'li
- B) 5+6 = 11'li
- C) 4+4+3 = 11'li
- D) 4+3 = 7'li

20. Aşağıdaki bilim dallarından hangisi edebiyat tarihinin ilgi alanı içinde yer almaz?

- A) Tarih
- B) Felsefe
- C) Biyoloji
- D) Bibliyografya

1. Aşağıdakilerden hangisi Tevfik Fikret için doğru bilgi değildir?

- A) Servet-i Fünûn Dönemi'nin en önemli şairlerindedir.
- B) Oğlu Halûk'un kişiliğinde bütün gençlere seslendi.
- C) Divan edebiyatındaki beyit anlayışına sadık kaldı.
- D) Çocuklar için yazdığı şiirlerini “Şermin” adlı kitapta topladı.

2. Aşağıdakilerin hangisinde bütün şiirlerinde yalnızca aruz ölçüsünü kullanan sanatçılar yer almaktadır?

- A) Ahmet Haşim, Mehmet Âkif, Cenap Şehabettin
- B) Tevfik Fikret, Yahya Kemal, Mehmet Âkif
- C) Ahmet Haşim, Tevfik Fikret, Yahya Kemal
- D) Yahya Kemal, Cenap Şehabettin, Mehmet Âkif

3. Halit Ziya Uşaklıgil'in “Kırk Yıl” adlı eserinin türü aşağıdakilerden hangisidir?

- A) Hikâye
- B) Roman
- C) Anı
- D) Şiir

4. Türk edebiyatında yazılan ilk psikolojik roman olarak kabul edilir. Bu eserde olaylardan çok, kişilerin olaylara karşı tepkisi üzerinde durulmuştur. Eserde aşktan başka kaygıları olmayan insanların hayatı anlatılmıştır.

Bu parçada tanıtılan eser aşağıdakilerden hangisidir?

- A) Eylül
- B) Handan
- C) Kırk yıl
- D) Hicranlar

5. Aşağıdakilerden hangisi Fecriâti edebiyatı için söylenemez?

- A) “Sanat şahsi ve muhteremdir.” ilkesiyle hareket ettiler.
- B) Edebiyatı araç olarak gördüler
- C) Şiirde güzellik kavramını ön plana çıkardılar.
- D) Ağır bir dille, doğal olmayan süslü bir anlatımla eserler verdiler.

6. Millî Edebiyatçıların görüş ve eserlerinin yayılmasında aşağıdaki dergilerden hangisinin rolü olmamıştır?

- A) Genç Kalemler
- B) Türk Yurdu
- C) Türk Ocağı
- D) Meşale

7. Güzel dil Türkçe bize,
Başka dil gece bize
İstanbul konuşması
En saf, en ince bize.

Bu dizeler aşağıdaki sanat topluluk veya eğilimlerinden hangisinin dil anlayışını belirtmektedir?

- A) Tanzimatçılar
- B) Servetifünuncular
- C) Fecriâtîciler
- D) Millî Edebiyatçılar

8. Recaizade Mahmut Ekrem birtakım gençleri çevresinde topladı. Bir dergide toplanarak yeni bir hareket yarattılar. Bunlar arasında “estetik zevki” ön plana çıkaran ve özgün tavırları ile ün kazanmış iki şairimiz de vardır.

Bu parçada söz edilen dergi ve iki ünlü şairimiz aşağıdakilerin hangisinde bir arada verilmiştir?

- A) Genç Kalemler; Ziya Gökalp, Muallim Naci
- B) Servet-i Fünûn; Tevfik Fikret, Cenap Şehabettin
- C) Genç Kalemler; Recaizade Mahmut Ekrem, Abdülhak Hamit
- D) Servet-i Fünûn; Mehmet Raûf, Şinasi

9. “Kendi Gök Kubbemiz” ve “Eski Şiirin Rüzgârıyla” adlı eserlerin şairi aşağıdakilerden hangisidir?

- A) Tevfik Fikret
- B) Ahmet Haşim
- C) Yahya Kemal Beyatlı
- D) Cenap Şehabettin

3. OTURUM

10. Asıl amacı şiirde söze önem vermek olan öz şiir (saf şiir) anlayışının Türk edebiyatındaki iki önemli temsilcisi aşağıdaki seçeneklerin hangisinde yer almaktadır?

- A) Faruk Nafiz Çamlıbel, Ziya Gökalp
- B) Cenap Şehabettin, Enis Behiç Koryürek
- C) Ahmet Haşim, Yahya Kemal Beyatlı
- D) Mehmet Âkif Ersoy, Tahsin Nahit

11. Servetifünun hikâye ve romanında aşağıdaki edebî akımlardan hangisinin etkisi vardır?

- A) Sembolizm B) Realizm
- C) Parnasizm D) Romantizm

12. Sanat hayatına Fecriâti topluluğunda başladı ve Milli Edebiyat döneminde de bu sanat anlayışını değiştirmede. Şiirlerinde kapalılağa önem veren sanatçı hep aruz ölçüsünü kullandı. "Göl Saatleri" ve "Piyale" şiir kitaplarıdır.

Bu parçada tanıtılan sanatçı aşağıdakilerden hangisidir?

- A) Mehmet Akif Ersoy
- B) Cenap Şahabettin
- C) Ahmet Haşim
- D) Ziya Gökalp

13. Aşağıdakilerden hangisi Fecriâti topluluğu sanatçılarından biri değildir?

- A) Ömer Seyfettin
- B) Emin Bülent
- C) Ahmet Haşim
- D) Ahmet Samim

14. Aşağıdakilerden hangisi tiyatro türünde yazılmamıştır?

- A) Canavar (Faruk Nafiz Çamlıbel)
- B) Aziz İstanbul (Yahya Kemal Beyatlı)
- C) Haçer (Reşat Nuri Güntekin)
- D) Kösem Sultan (Tahsin Nahit)

15. "Hayal ile yoktur benim alışverişim, her ne demişsem görüp de söylemişim." diyen şair, sanat anlayışını da ortaya koymaktadır. Aruzu halkın konuşma diline başarıyla uygulamış, yazdığı manzum hikâyelerde yoksul insanların yaşamını gerçekçi bir görüşle aktarmıştır.

Bu paragrafta sözü edilen sanatçı aşağıdakilerden hangisidir?

- A) Ömer Seyfettin
- B) Mehmet Akif Ersoy
- C) Reşat Nuri Güntekin
- D) Halide Edip Adıvar

16. Aşağıdakilerden hangisi Servetifünun edebiyatının özelliklerinden biri değildir?

- A) Toplum gerçeklerine değinen eserler verilmiştir.
- B) Dil ve anlatım süslü, sanatlı ve ağırdır.
- C) Roman ve hikâye türlerinde Batı tekniğine uygun örnekler verilmiştir.
- D) Realist ve natüralist akımların etkisinde kalınmıştır.

17. Türk edebiyatında bir bildiri ile kurulduğunu ilan eden ilk topluluk aşağıdakilerden hangisidir?

- A) Yedi Meşaleciler
- B) Edebiyatıcedide
- C) Beş Hececiler
- D) Fecriâti

18. Aşağıdakilerden hangisi Mehmet Âkif Ersoy'un yazdığı "Safahat" adlı eserin bölümlerinden biri değildir?

- A) Süleymaniye Kürsüsünde
- B) Hakkın Sesleri
- C) Gölgele
- D) Yüzakı

19. Aşağıdakilerden hangisi Cenap Şehabettin'in Bulgaristan, Romanya, Macaristan, Çekoslovakya, Almanya ve Avusturya'ya yaptığı gezilere ait duygularını, düşüncelerini ve bu gezilerde kendisini etkileyen önemli olayları anlattığı eseridir?

- A) Avrupa Mektupları
- B) Tiryaki Sözleri
- C) Nesr-i Sulh
- D) Tâmat

20. Aşağıdakilerden hangisi öz şiir anlayışını yansıtmaz?

- A) Asıl amaç, şiirde söze önem vermektir.
- B) Bireysel duyarlılıktan çok sosyal temalar tercih edilmelidir.
- C) Şiirde sözcüklerin bir ahenk içinde düzenlenmesi gerekir.
- D) Önce ritm sonra da dilin ahenkinin sezdirilmesi önemlidir.

3. OTURUM

(975) GİRİŞİMCİLİK – 2

1. Aşağıda verilen etmenlerden hangisi bir işletmenin dış çevresinde yer alır?

- A) İş gücü B) Personel
C) Üretim D) Finans

2. Çelik üretiminde kullanılan pik demir, hangi tür üretim malla-rındandır?

- A) Hammaddeler
B) Yatırım donatım malları
C) Üretim gereçleri ve malları
D) Yardımcı araçlar

3. Çevre ile ilgili kalite belgesi aşağıdakilerden hangisidir?

- A) ISO 8000 B) ISO 9000
C) ISO 14000 D) ISO 22000

4. Bir şirketin diğer işletmelere ait hisse senetlerine sahip olması yolu ile onları finansal ve yönetim olarak kontrolüne alma biçimine ne ad verilir?

- A) Tröst B) Holding
C) Kartel D) Konsorsiyum

5. "Hizmet işletmesi reklamı" hangi reklam çeşidi kapsamında değerlendirilmelidir?

- A) Reklam içeriği açısından
B) Hedef kitle açısından
C) Amaçlar açısından
D) Yapanlar açısından

6. Aşağıdakilerden hangisi günümüzde müteşebbisliğin çok önemli bir konuma sahip olmasının nedenlerinden biri olarak gösterilemez?

- A) İthalatın artmasını sağlar.
B) Kamu hizmetlerinin kalitesini artırır.
C) Vergi gelirlerinin artmasını sağlar.
D) Alt yapı hizmetlerinin giderilmesini sağlar.

7. Aşağıdakilerden hangisi bir işletmenin kuruluş yeri etmenlerinden birisi olarak düşünülemez?

- A) Sermaye faizi
B) Askeri tehlike
C) Personel giderleri
D) Sosyal kültürel şartlar

8. Maslow'un ihtiyaçlar hiyerarşisine göre, bir insanın saygı ihtiyaçlarından sonra ortaya çıkacak ihtiyaçları aşağıdakilerden hangisidir?

- A) Fizyolojik
B) Başarma
C) Güvenlik
D) Sevgi ve ait olma

9. Giyim mağazaları hangi tür işletmelere örnektir?

- A) Finans İşletmeleri
B) Kiralama İşletmeleri
C) Ticaret İşletmeleri
D) Sanayi İşletmeleri

10. Bir kişinin araba satın alması aşağıdakilerden hangisine örnek teşkil eder?

- A) Arz B) Talep
C) İstek D) Piyasa

11. Aşağıdakilerden hangisi franchising türü değildir?

- A) Ürün ve marka franchisingi
B) Uluslararası franchising
C) Ulusal franchising
D) Patent franchisingi

12. Aşağıdakilerden hangisi fizibilite etüdünün yapılış amaçlarındandır?

- A) Araştırma giderlerini artırmak
B) İşletmenin hangi büyüklükte ve nerede kurulacağını belirlemek
C) Prototip üretimi yapacak tesisi kurmak
D) Müşterilerden gelen şikayetleri dinlemek

13. Mal ya da hizmetleri bireysel gereksinimleri için alanlara "son tüketici" denir.

Bu tanıma göre, aşağıdakilerden hangisi son tüketicidir?

- A) Normal insanlar
B) Fabrikatörler
C) Girişimciler
D) Robotlar

14. Aşağıdakilerden hangisi kamu işletmesi değildir?

- A) Özel bütçeli işletmeler
B) Kooperatifler
C) Kamu İktisadi Teşekkülleri
D) Özerk Bütçeli Devlet İşletmeleri

15. Aşağıdakilerden hangisi, iyi bir iş planının girişimciye sağlayacağı yararlarından biri değildir?

- A) Yatırım kararı almış girişimciye rehberlik eder.
B) İşletmenin pazara yakınlığını sağlar.
C) Girişimcilerin ve çalışanların dikkatini amaca yöneltir.
D) İşletmenin pozisyonunu gösterir.

16. Aşağıdakilerden hangisi, hukuki şekilleri bakımından işletmeler grubunda yer almaz?

- A) Ticaret İşletmeleri
B) Özel İşletmeler
C) Kamu İşletmeleri
D) Yabancı Sermayeli İşletmeler

17. Aşağıdaki bankalardan hangisi, ülkemizdeki KOBİ'lere (küçük ve orta büyüklükteki işletmeler) en büyük kredi desteği veren kuruluştur?

- A) Sümerbank
B) Ziraat Bankası
C) Türk Eximbank
D) Türkiye Halk Bankası

3. OTURUM

18. Özel bir girişimcinin yapacağı yatırıma temel oluşturacak ön projelerin değerlendirilmesinde ana ölçüt, aşağıdakilerden hangisidir?

- A) İstihdam
- B) Üretimin temel süreçleri
- C) Projenin yöre için önemi
- D) Girişimin sağlayacağı kâr

19. Türk Ticaret Kanunu'na göre; bir ticari işletmeyi kısmen de olsa kendi adına işleten kişiye ne ad verilir?

- A) İşletmeci
- B) Müdür
- C) Tacir
- D) İşçi

20. İnternet girişimciliğinde paranın yerini, aşağıdakilerden hangisi almıştır?

- A) Hazine bonoları
- B) Kredi kartları
- C) Senet
- D) Çek

**TEST BİTTİ.
CEVAPLARINIZI KONTROL EDİNİZ.**

SINAV SÜRESİNCE UYULACAK KURALLAR

- 1. Adaylar, sınav kurallarına ve salon görevlilerinin tüm uyarılarına uymak zorundadırlar. Kurallara ve uyarılara uymayan adayların sınavları geçersiz sayılacaktır.**
2. Sınav başladıktan sonra adayların salon görevlileri ve birbirleri ile konuşmaları, kalem, silgi vb. şeyleri istemeleri yasaktır.
3. Adaylar sınav süresince, sınav giriş belgesi ile birlikte kimlik belgelerinden birini (nüfus cüzdanı, pasaport veya sürücü belgesi) masalarının üzerinde bulundurmamak zorundadırlar.

SALON GÖREVLİLERİNCE SINAV BAŞLAMADAN ÖNCE ADAYLARA YAPILACAK SON UYARI

- Soracağınız bir şey var mı? Varsa şimdi sorunuz.
- Sınav başladıktan sonra sorularınıza cevap verilmeyecektir.
- Başlama zilini bekleyiniz.
- Hepinize başarılar dileriz.

(Salon başkanı başlama ve bitiş saatini tahtaya yazacaktır.)

Bu kitapçığın her hakkı saklıdır. Hangi amaçla olursa olsun, kitapçığın tamamının veya bir kısmının Millî Eğitim Bakanlığı Ölçme, Değerlendirme ve Sınav Hizmetleri Genel Müdürlüğünün yazılı izni olmadan kopya edilmesi, fotoğraflarının çekilmesi, bilgisayar ortamına alınması, herhangi bir yolla çoğaltılması, yayımlanması veya başka bir amaçla kullanılması yasaktır. Bu yasağa uymayanlar, doğabilecek cezai sorumluluğu ve kitapçığın hazırlanmasındaki mali külfeti peşinen kabullenmiş sayılır.

9 AĞUSTOS 2015 TARİHİNDE YAPILAN AÇIKÖĞRETİM LİSESİ / MESLEKİ AÇIKÖĞRETİM LİSESİ
2014-2015 ÖĞRETİM YILI 3. DÖNEM SINAVI 3. OTURUM T KİTAPÇIĞI CEVAP ANAHTARI

DİN KÜL. AHL. BİL. – 3	DİN KÜL. AHL. BİL. – 6	SEÇMELİ FELSEFE – 2	TARİH– 4
1. A	1. B	1. B	1. B
2. C	2. D	2. A	2. C
3. B	3. A	3. C	3. D
4. D	4. D	4. D	4. B
5. B	5. B	5. C	5. C
6. C	6. C	6. A	6. D
7. A	7. B	7. B	7. A
8. D	8. A	8. B	8. A
9. B	9. C	9. D	9. B
10. C	10. D	10. D	10. D
11. B	11. A	11. C	11. B
12. A	12. D	12. B	12. B
13. C	13. B	13. A	13. D
14. D	14. C	14. B	14. A
15. A	15. A	15. C	15. C
16. C	16. C	16. D	16. C
17. B	17. B	17. A	17. A
18. A	18. D	18. D	18. D
19. B	19. A	19. C	19. C
20. B	20. C	20. A	20. C

DİN KÜL. AHL. BİL. – 4	FELSEFE – 2	TARİH – 3	T.C. İNK. TAR. ATA. – 2
1. C	1. C	1. B	1. B
2. A	2. D	2. B	2. D
3. B	3. A	3. B	3. A
4. C	4. B	4. A	4. C
5. D	5. A	5. D	5. B
6. A	6. D	6. C	6. A
7. C	7. B	7. A	7. D
8. D	8. A	8. C	8. B
9. B	9. C	9. B	9. A
10. A	10. C	10. D	10. C
11. D	11. B	11. C	11. D
12. A	12. A	12. A	12. B
13. C	13. D	13. D	13. A
14. B	14. B	14. C	14. A
15. C	15. C	15. B	15. C
16. A	16. D	16. D	16. D
17. D	17. C	17. A	17. B
18. B	18. A	18. B	18. A
19. D	19. D	19. A	19. A
20. C	20. B	20. C	20. C

9 AĞUSTOS 2015 TARİHİNDE YAPILAN AÇIKÖĞRETİM LİSESİ / MESLEKİ AÇIKÖĞRETİM LİSESİ
2014-2015 ÖĞRETİM YILI 3. DÖNEM SINAVI 3. OTURUM T KİTAPÇIĞI CEVAP ANAHTARI

COĞRAFYA – 3

1. A
2. A
3. D
4. A
5. C
6. C
7. B
8. D
9. A
10. D
11. C
12. C
13. D
14. D
15. B
16. C
17. A
18. B
19. B
20. A

COĞRAFYA – 8

1. C
2. A
3. D
4. B
5. B
6. C
7. A
8. D
9. D
10. C
11. C
12. D
13. C
14. A
15. B
16. C
17. A
18. C
19. D
20. B

MATEMATİK – 5

1. B
2. C
3. C
4. A
5. A
6. B
7. C
8. D
9. A
10. D
11. A
12. B
13. A
14. D
15. B
16. C
17. D
18. D
19. B
20. C

SOSYOLOJİ – 2

1. D
2. C
3. A
4. D
5. B
6. C
7. B
8. A
9. A
10. C
11. D
12. A
13. D
14. B
15. C
16. B
17. D
18. B
19. A
20. C

COĞRAFYA – 4

1. A
2. D
3. A
4. C
5. D
6. C
7. B
8. C
9. D
10. B
11. C
12. A
13. B
14. A
15. B
16. D
17. C
18. B
19. A
20. A

MATEMATİK – 3

1. D
2. D
3. C
4. B
5. B
6. C
7. C
8. D
9. A
10. A
11. D
12. B
13. A
14. B
15. A
16. B
17. A
18. B
19. D
20. C

PSİKOLOJİ – 1

1. C
2. C
3. A
4. D
5. C
6. A
7. D
8. B
9. D
10. A
11. D
12. B
13. B
14. D
15. C
16. A
17. C
18. B
19. D
20. A

İNGİLİZCE – 3

1. B
2. D
3. C
4. C
5. A
6. B
7. A
8. D
9. D
10. A
11. D
12. C
13. B
14. A
15. D
16. D
17. A
18. B
19. A
20. C

9 AĞUSTOS 2015 TARİHİNDE YAPILAN AÇIKÖĞRETİM LİSESİ / MESLEKİ AÇIKÖĞRETİM LİSESİ
2014-2015 ÖĞRETİM YILI 3. DÖNEM SINAVI 3. OTURUM T KİTAPÇIĞI CEVAP ANAHTARI

ALMANCA – 3

1. B
2. A
3. C
4. D
5. C
6. D
7. B
8. D
9. A
10. A
11. D
12. B
13. A
14. C
15. C
16. B
17. C
18. D
19. A
20. B

DİL VE ANLATIM – 3

1. A
2. C
3. A
4. A
5. D
6. A
7. D
8. B
9. B
10. C
11. D
12. C
13. A
14. B
15. B
16. B
17. C
18. C
19. A
20. D

DİL VE ANLATIM – 6

1. C
2. B
3. C
4. B
5. A
6. A
7. B
8. D
9. D
10. C
11. D
12. C
13. B
14. A
15. D
16. B
17. B
18. C
19. D
20. A

TÜRK EDEBİYATI – 6

1. B
2. C
3. C
4. C
5. D
6. A
7. C
8. A
9. A
10. D
11. D
12. C
13. D
14. B
15. B
16. B
17. A
18. A
19. B
20. C

FRANSIZCA – 3

1. A
2. C
3. B
4. D
5. D
6. A
7. C
8. B
9. B
10. D
11. A
12. D
13. A
14. D
15. C
16. B
17. C
18. C
19. B
20. D

DİL VE ANLATIM – 5

1. D
2. C
3. A
4. C
5. D
6. A
7. C
8. A
9. C
10. B
11. C
12. A
13. B
14. A
15. D
16. D
17. C
18. B
19. D
20. A

TÜRK EDEBİYATI – 3

1. D
2. C
3. B
4. C
5. C
6. D
7. B
8. B
9. A
10. C
11. A
12. C
13. A
14. D
15. D
16. B
17. D
18. B
19. A
20. A

FİZİK – 6

1. D
2. A
3. A
4. C
5. A
6. B
7. B
8. C
9. B
10. D
11. C
12. C
13. D
14. B
15. D
16. A
17. B
18. C
19. D
20. A

9 AĞUSTOS 2015 TARİHİNDE YAPILAN AÇIKÖĞRETİM LİSESİ / MESLEKİ AÇIKÖĞRETİM LİSESİ
2014-2015 ÖĞRETİM YILI 3. DÖNEM SINAVI 3. OTURUM T KİTAPÇIĞI CEVAP ANAHTARI

FİZİK – 7

1. C
2. B
3. D
4. B
5. A
6. D
7. B
8. D
9. C
10. B
11. A
12. D
13. C
14. B
15. D
16. C
17. A
18. C
19. A
20. A

KİMYA – 3

1. B
2. C
3. C
4. D
5. B
6. A
7. D
8. C
9. B
10. D
11. A
12. C
13. C
14. A
15. D
16. A
17. B
18. D
19. B
20. A

KİMYA – 5

1. B
2. C
3. A
4. D
5. A
6. B
7. A
8. C
9. D
10. A
11. D
12. B
13. C
14. D
15. B
16. D
17. A
18. C
19. D
20. B

BİYOLOJİ – 8

1. D
2. A
3. A
4. B
5. C
6. C
7. B
8. B
9. C
10. B
11. C
12. B
13. D
14. A
15. A
16. D
17. D
18. B
19. C
20. C

FİZİK – 8

1. B
2. C
3. D
4. A
5. B
6. D
7. A
8. C
9. B
10. C
11. A
12. A
13. C
14. B
15. D
16. B
17. C
18. D
19. A
20. D

KİMYA – 4

1. C
2. B
3. A
4. D
5. B
6. C
7. A
8. B
9. D
10. A
11. B
12. D
13. C
14. B
15. C
16. A
17. A
18. C
19. D
20. D

BİYOLOJİ – 5

1. B
2. A
3. C
4. D
5. A
6. D
7. B
8. A
9. C
10. B
11. D
12. D
13. B
14. C
15. A
16. D
17. B
18. A
19. C
20. C

ÇAĞ. TÜRK DÜN. TAR. – 2

1. D
2. B
3. A
4. C
5. B
6. A
7. B
8. C
9. D
10. D
11. A
12. C
13. B
14. D
15. C
16. B
17. B
18. A
19. A
20. C

9 AĞUSTOS 2015 TARİHİNDE YAPILAN AÇIKÖĞRETİM LİSESİ / MESLEKİ AÇIKÖĞRETİM LİSESİ
2014-2015 ÖĞRETİM YILI 3. DÖNEM SINAVI 3. OTURUM T KİTAPÇIĞI CEVAP ANAHTARI

EKONOMİ – 2

1. D
2. B
3. D
4. C
5. D
6. B
7. A
8. C
9. B
10. A
11. D
12. A
13. D
14. B
15. D
16. D
17. B
18. C
19. A
20. B

MANTIK – 1

1. C
2. B
3. A
4. C
5. D
6. A
7. D
8. B
9. A
10. C
11. B
12. C
13. D
14. B
15. D
16. B
17. C
18. A
19. D
20. A

GEOMETRİ – 6

1. D
2. B
3. C
4. C
5. B
6. C
7. B
8. B
9. D
10. A
11. A
12. D
13. D
14. C
15. B
16. A
17. D
18. A
19. A
20. C

İNGİLİZCE – 6

1. C
2. A
3. C
4. D
5. A
6. A
7. B
8. D
9. B
10. C
11. D
12. A
13. B
14. C
15. D
16. B
17. B
18. A
19. D
20. C

MATEMATİK – 8

1. B
2. A
3. A
4. D
5. B
6. A
7. C
8. B
9. D
10. B
11. B
12. C
13. C
14. D
15. D
16. A
17. C
18. C
19. D
20. A

GEOMETRİ – 4

1. A
2. D
3. B
4. B
5. D
6. C
7. C
8. C
9. C
10. B
11. A
12. A
13. D
14. A
15. A
16. B
17. C
18. D
19. D
20. C

GEOMETRİ – 7

1. D
2. C
3. D
4. A
5. A
6. C
7. C
8. B
9. D
10. A
11. B
12. A
13. A
14. C
15. C
16. B
17. D
18. C
19. B
20. D

ALMANCA – 6

1. D
2. C
3. B
4. A
5. D
6. C
7. C
8. A
9. B
10. C
11. B
12. B
13. D
14. C
15. A
16. B
17. A
18. D
19. D
20. A

9 AĞUSTOS 2015 TARİHİNDE YAPILAN AÇIKÖĞRETİM LİSESİ / MESLEKİ AÇIKÖĞRETİM LİSESİ
2014-2015 ÖĞRETİM YILI 3. DÖNEM SINAVI 3. OTURUM T KİTAPÇIĞI CEVAP ANAHTARI

FRANSIZCA – 6

1. D
2. D
3. C
4. D
5. D
6. A
7. C
8. B
9. B
10. A
11. D
12. A
13. A
14. D
15. B
16. C
17. B
18. C
19. B
20. C

SEÇMELİ TARİH – 4

1. D
2. D
3. C
4. A
5. B
6. B
7. A
8. D
9. C
10. B
11. A
12. D
13. D
14. B
15. C
16. B
17. A
18. A
19. B
20. C

SEÇMELİ COĞRAFYA – 4

1. A
2. C
3. B
4. D
5. B
6. C
7. A
8. D
9. B
10. C
11. A
12. B
13. C
14. B
15. A
16. C
17. C
18. A
19. A
20. D

SEÇ. Y. DİL ALM. – 3

1. A
2. D
3. C
4. A
5. B
6. D
7. C
8. B
9. A
10. B
11. A
12. B
13. A
14. C
15. A
16. D
17. D
18. C
19. B
20. B

SEÇMELİ TARİH – 3

1. B
2. B
3. C
4. C
5. A
6. D
7. A
8. C
9. D
10. B
11. A
12. C
13. D
14. D
15. A
16. A
17. C
18. C
19. B
20. A

SEÇMELİ COĞRAFYA – 3

1. D
2. B
3. D
4. C
5. A
6. C
7. D
8. A
9. B
10. C
11. C
12. A
13. B
14. B
15. D
16. B
17. A
18. D
19. B
20. A

SEÇ. Y. DİL İNG. – 3

1. A
2. B
3. B
4. D
5. A
6. D
7. B
8. C
9. C
10. D
11. B
12. A
13. C
14. A
15. B
16. C
17. D
18. C
19. B
20. A

SEÇ. Y. DİL FRAN. – 3

1. D
2. B
3. C
4. A
5. C
6. A
7. B
8. D
9. A
10. D
11. B
12. C
13. D
14. C
15. A
16. B
17. A
18. C
19. B
20. C

9 AĞUSTOS 2015 TARİHİNDE YAPILAN AÇIKÖĞRETİM LİSESİ / MESLEKİ AÇIKÖĞRETİM LİSESİ
2014-2015 ÖĞRETİM YILI 3. DÖNEM SINAVI 3. OTURUM T KİTAPÇIĞI CEVAP ANAHTARI

SEÇ. Y. DİL İNG. – 6

1. A
2. D
3. B
4. B
5. A
6. D
7. C
8. C
9. A
10. D
11. C
12. B
13. C
14. A
15. D
16. D
17. A
18. B
19. C
20. D

SEÇ. Y. DİL FRAN. – 6

1. C
2. C
3. A
4. D
5. B
6. B
7. A
8. D
9. A
10. B
11. C
12. D
13. C
14. A
15. B
16. B
17. D
18. A
19. D
20. C

HZ. MUHAMMED'İN HAY. – 4

1. C
2. D
3. B
4. D
5. C
6. A
7. D
8. A
9. B
10. C
11. A
12. C
13. D
14. B
15. C
16. A
17. D
18. B
19. D
20. B

SEÇ. DİL ANLA. – 3

1. A
2. B
3. B
4. A
5. C
6. B
7. A
8. D
9. C
10. A
11. A
12. C
13. B
14. B
15. D
16. A
17. B
18. B
19. D
20. C

SEÇ. Y. DİL ALM. – 6

1. A
2. B
3. D
4. A
5. D
6. B
7. A
8. C
9. D
10. B
11. A
12. A
13. C
14. C
15. B
16. B
17. B
18. D
19. B
20. C

HZ. MUHAMMED'İN HAY. – 3

1. D
2. B
3. C
4. A
5. D
6. A
7. A
8. B
9. C
10. B
11. D
12. B
13. A
14. C
15. A
16. B
17. D
18. B
19. C
20. B

DEM. VE İNSAN HAKLARI – 2

1. B
2. D
3. A
4. B
5. C
6. B
7. D
8. C
9. D
10. C
11. D
12. C
13. B
14. A
15. A
16. D
17. A
18. B
19. A
20. C

SEÇ. DİL ANLA. – 5

1. B
2. A
3. B
4. D
5. C
6. B
7. A
8. D
9. A
10. D
11. C
12. C
13. A
14. A
15. D
16. C
17. B
18. B
19. A
20. B

9 AĞUSTOS 2015 TARİHİNDE YAPILAN AÇIKÖĞRETİM LİSESİ / MESLEKİ AÇIKÖĞRETİM LİSESİ
2014-2015 ÖĞRETİM YILI 3. DÖNEM SINAVI 3. OTURUM T KİTAPÇIĞI CEVAP ANAHTARI

SEÇ. DİL ANLA. – 6

1. C
2. A
3. C
4. D
5. B
6. A
7. D
8. C
9. B
10. D
11. D
12. A
13. C
14. D
15. C
16. B
17. B
18. C
19. A
20. A

SEÇMELİ TÜRK EDEB. – 6

1. C
2. A
3. C
4. A
5. B
6. D
7. D
8. B
9. C
10. C
11. B
12. C
13. A
14. B
15. B
16. A
17. D
18. D
19. A
20. B

SEÇMELİ TÜRK EDEB. – 3

1. D
2. A
3. B
4. B
5. A
6. C
7. D
8. C
9. B
10. A
11. B
12. D
13. C
14. A
15. B
16. C
17. B
18. A
19. D
20. C

GİRİŞİMCİLİK – 2

1. A
2. C
3. C
4. B
5. D
6. A
7. C
8. B
9. C
10. B
11. D
12. B
13. A
14. B
15. B
16. A
17. D
18. D
19. C
20. B