

OTURUM

1



T.C.

MİLLÎ EĞİTİM BAKANLIĞI
ÖLÇME, DEĞERLENDİRME VE SINAV HİZMETLERİ
GENEL MÜDÜRLÜĞÜ

T

AÇIK ÖĞRETİM LİSESİ / MESLEKİ AÇIKÖĞRETİM LİSESİ
2014-2015 ÖĞRETİM YILI 2. DÖNEM SINAVI

1. OTURUM: 30 MAYIS 2015 Saat:09.30

DERS KODU VE ADI	SAYFA	DERS KODU VE ADI	SAYFA	DERS KODU VE ADI	SAYFA
(111) DİN KÜL. AHL. BİL. – 1	2	(414) TÜRK EDEBİYATI – 4	26	(511) FIKIH – 1	53
(112) DİN KÜL. AHL. BİL. – 2	3	(417) TÜRK EDEBİYATI – 7	27	(525) SEÇ. Y. DİL İNG. – 5	54
(115) DİN KÜL. AHL. BİL. – 5	4	(418) TÜRK EDEBİYATI – 8	29	(525) SEÇ. Y. DİL ALM. – 5	55
(121) FELSEFE – 1	5	(421) FİZİK – 1	30	(525) SEÇ. Y. DİL FRAN. – 5	56
(123) SEÇMELİ FELSEFE – 1	7	(425) FİZİK – 5	31	(528) SEÇ. Y. DİL İNG. – 8	57
(132) TARİH – 2	8	(432) KİMYA – 2	33	(528) SEÇ. Y. DİL ALM. – 8	57
(136) TARİH – 6	9	(436) KİMYA – 6	35	(528) SEÇ. Y. DİL FRAN. – 8	58
(151) COĞRAFYA – 1	10	(441) BİYOLOJİ – 1	36	(532) HZ. MUHAMMED'İN HAY. – 2	60
(155) COĞRAFYA – 5	12	(443) BİYOLOJİ – 3	37	(609) MATEMATİK – 6	62
(157) COĞRAFYA – 7	13	(446) BİYOLOJİ – 6	39	(611) KARŞ. DİN. TAR. – 1	63
(181) İNGİLİZCE – 1	14	(461) EKONOMİ – 1	40	(617) SEÇ. DİL ve ANLA. – 7	64
(181) ALMANCA – 1	15	(465) TEMEL DİNİ BİL. – 1	41	(618) SEÇ. DİL ve ANLA. – 8	66
(181) FRANSIZCA – 1	16	(477) İŞLETME – 2	42	(624) SEÇ. TÜRK EDEB. – 4	67
(244) İNGİLİZCE – 5	17	(479) MANTIK – 2	44	(627) SEÇ. TÜRK EDEB. – 7	69
(244) ALMANCA – 5	18	(484) SAĞLIK BİLGİSİ – 2	45	(628) SEÇ. TÜRK EDEB. – 8	71
(244) FRANSIZCA – 5	19	(491) TRAF. VE İLK YARD. – 1	46	(711) İSLAM TARİHİ – 1	72
(401) DİL VE ANLATIM – 1	20	(495) GEOMETRİ – 5	48	(811) KELAM – 1	73
(402) DİL VE ANLATIM – 2	21	(502) İNGİLİZCE – 8	50	(931) SİYER – 1	75
(407) DİL VE ANLATIM – 7	23	(502) ALMANCA – 8	51	(974) GİRİŞİMCİLİK – 1	76
(408) DİL VE ANLATIM – 8	24	(502) FRANSIZCA – 8	51	(999) MATEMATİK – 2	78

ADAYLARIN DİKKATİNE!

- Her ders için **20** soru bulunmaktadır. Bu oturumda **180** dakikalık cevaplama süreniz vardır. Sınav başladıktan sonra ilk **30** dakika dolmadan dışarı çıkmayınız.
- Sınav sırasında sözlük, hesap cetveli veya makinesi, çağrı cihazı, cep telefonu, telsiz, radyo gibi elektronik iletişim araçlarını yanınızda bulundurmuyunuz. Bu araçları kullanmanız ve kopya çekmeye teşebbüs etmeniz hâlinde sınavınız geçersiz sayılacaktır.
- Başvuru şartlarını taşımadığınız hâlde sınava girmeniz, kopya çekmeniz, başka adayın sınav evrakını kullanmanız, geçerli kimlik belgenizi ve sınav giriş belgenizi ibraz edemediğiniz durumlarda sınavınız geçersiz sayılacaktır.
- Sınavın değerlendirilmesi aşamasında, kopya tespiti hâlinde sınavınız geçersiz sayılacaktır.

CEVAP KÂĞIDI VE SORU KİTAPÇIĞI İLE İLGİLİ AÇIKLAMALAR

- Cevap kâğıdınızdaki bilgilerin doğruluğunu kontrol ediniz ve cevap kâğıdınızı mürekkepli kalemle imzalayınız.
- Cevap kâğıdı üzerinde kodlamalarınızı kurşun kalemle yapınız.
- Değiştirmek istediğiniz bir cevabı, yumuşak silgiyle cevap kâğıdını örselemeden temizce siliniz ve yeni cevabınızı kodlayınız.
- Soru kitapçığının sayfalarını kontrol ediniz, baskı hatası var ise değiştirilmesini sağlayınız.
- Soruların çözümü için size ayrıca boş kâğıt verilmeyecektir. Soru kitapçığının içindeki boş alanları soru çözümleri için kullanabilirsiniz.
- Her sorunun dört seçeneğinden sadece biri doğrudur. Doğru seçeneği, cevap kâğıdınızın ilgili sütununa soru numarasını dikkate alarak yuvarlağın dışına taşırmadan kodlayınız. **Soru kitapçığı üzerinde yapılan cevaplandırmalar dikkate alınmayacaktır.**
- Cevaplamaya istediğiniz dersin sorusundan başlayabilirsiniz. Cevabını bilmediğiniz sorular üzerinde fazla zaman kaybetmeden diğer sorulara geçiniz. Zamanınız kalırsa bu sorulara daha sonra dönebilirsiniz.
- Yanlış cevaplarınız dikkate alınmadan sadece doğru cevaplarınız üzerinden puanlama yapılacaktır.
- Soruları ve sorulara verdiğiniz cevapları, yanınızda götürmek amacıyla kaydetmeyiniz; hiçbir şekilde dışarı çıkarmayınız.
- Sınav bitiminde, soru kitapçığı ve cevap kâğıdını salon görevlilerine teslim ediniz.**

BAŞLAYINIZ DENİLMEYEN SORU KİTAPÇIĞINI AÇMAYINIZ.

1. OTURUM

(111) DİN KÜL. AHL. BİL. – 1

1. İnsanı evrendeki diğer varlıklardan ayıran **en temel** özellik aşağıdakilerden hangisidir?

- A) Akıl B) İrade
C) Düşünme D) Sorumluluk

2. • Tanrının varlığını kabul etmezler.
• Evrenin kendiliğinden var olduğunu savunurlar.

Bu bilgiler aşağıda verilen inanma biçimlerinden hangisine aittir?

- A) Monoteizm B) Ateizm
C) Politeizm D) Satanizm

3. Aşağıdakilerden hangisi ilahi bir din **değildir**?

- A) İslamiyet B) Hristiyanlık
C) Hinduizm D) Yahudilik

4. Aşağıdakilerden hangisi insanların vahiyden uzaklaşmalarının bir sonucu olarak değerlendirilebilir?

- A) Çok tanrılı inançlar ortaya çıkar.
B) Doğa ve çevre bilinci zayıflar.
C) Bilimsel ve teknolojik gelişmeler terk edilir.
D) Toplumun birlik ve beraberlik duygusu yok olur.

5. İnsanlarda, yaptıklarının hesabını verme bilincinin oluşmasında, aşağıdakilerden hangisi diğerlerine göre daha çok etkilidir?

- A) Kader inancı
B) Melek inancı
C) Ahiret inancı
D) Peygamber inancı

6. İtaat, kulluk, tapınma ve boyun eğme gibi anlamlara gelen kavram aşağıdakilerden hangisidir?

- A) İman B) İhsan
C) Takva D) İbadet

7. “İman edip iyi işler yapanlar cennet bahçelerindedir. Rab’lerinin yanında onlara diledikleri her şey vardır. İşte büyük lütuf budur.” (Şûrâ suresi, 22. ayet)

Bu ayette ibadetin kişiye sağladığı faydalardan hangisi dile getirilmektedir?

- A) İnsanı ümitsizlikten koruyacağı
B) Allah’a olan inancı pekiştireceği
C) İbadet eden insanın ahirette ödüllendirileceği
D) İnsanda sorumluluk bilincini geliştireceği

8. Aşağıdakilerden hangisi ibadet-temizlik ilişkisi bağlamında **ele alınamaz**?

- A) Dişleri fırçalamak
B) Abdest almak
C) Kin tutmamak
D) Selam vermek

9. Usulüne uygun abdest alan bir kişi yüzünü yıkadıktan sonra aşağıdakilerden hangisini yapar?

- A) Başını mesh eder.
B) Kollarını yıkar.
C) Ayaklarını yıkar.
D) Ağız ve burnunu yıkar.

10. “... Biz bunlara (putlara) sadece bizi Allah’a yaklaştırmaları için talep ediyoruz...” (Zümer suresi, 3. ayet)

Ayette dile getirilen ifade aşağıda verilen inanç gruplarından hangisine aittir?

- A) Hanifler B) Hristiyanlar
C) Müşrikler D) Yahudiler

11. İslam öncesi Arap toplumunun yaşadığı döneme “cahiliye dönemi” denilmesinin en önemli sebebi aşağıdakilerden hangisidir?

- A) Kötü alışkanlık ve davranışların yaygın olması
B) İnsanların çoğunun okur-yazar olmaması
C) Toplumda Allah inancının bulunmaması
D) Kabileler arası savaşların sürekli devam etmesi

12. Aşağıdakilerden hangisi Hz. Muhammed (sav.)’in sütkardeşidir?

- A) Halime B) Mariye
C) Şeyma D) Rukiye

13. Hz. Muhammed (sav.)’e inen ilk ayetler hangi surede yer alır?

- A) Alak B) İhlâs
C) Yâsîn D) Müddessir

14. Hz. Muhammed (sav.)’in, insanları, İslam’a gizli bir şekilde davet ettiği üç yıllık dönem hangi ayetle son bulmuştur?

- A) “Yaratan Rabb’inin adıyla oku!” (Alak suresi, 1. ayet)
B) “Ey örtünüp bürünen kalk da uyar.” (Müddessir suresi, 1 ve 2. ayetler)
C) “Sana emrolunanı açıkça söyle.” (Hicr suresi, 94. ayet)
D) “De ki: O Allah birdir, tekdir.” (İhlâs suresi, 1. ayet)

15. Medine’den gelen bir grup Müslüman’ın Peygamberimizle görüşüp daha sonra kendisine bağlılık yemini ettikleri ve peşe peşe iki yıl gerçekleşen bu olay İslam tarihinde hangi isimle anılmaktadır?

- A) Akabe Biatları
B) Fetretü’l-Vahiy
C) Senetü’l-Vüfüt
D) Hicret

16. Hz. Muhammed (sav.)’in kabrine verilen isim aşağıdakilerden hangisidir?

- A) Kâbe
B) Suffe
C) Mescid-i Nebi
D) Ravza-i Mutahhara

17. Kur’an-ı Kerim’in parça parça indirilmesinin aşağıdakilerden hangisini kolaylaştırdığı **söylenemez**?

- A) Yazılmasını
B) Anlaşılmasını
C) Ezberlenmesini
D) Kitap haline getirilmesini

1. OTURUM

18. Kur'an-ı Kerim hakkında aşağıda verilen bilgilerden hangisi yanlıştır?

- A) Vahiy kâtipleri tarafından yazılmıştır.
- B) Hz. Ömer zamanında kitap haline getirilmiştir.
- C) Zeyd b. Sabit, Kur'an-ı Kerim'i çoğaltmakla görevlendirilmiştir.
- D) İndirilme süreci 23 yılda tamamlanmıştır.

19. Aşağıdakilerden hangisi Kur'an-ı Kerim'in okunmasıyla ilgili bir kavram değildir?

- A) Mushaf
- B) Hatim
- C) Mukabele
- D) Tecvit

20. "Sen af yolunu tut, iyiliği emret ve cahillerden yüz çevir." (A'râf suresi, 199. ayet)

Bu ayet Kur'an'ın ana konularından hangisine örnek olur?

- A) İnanç
- B) İbadet
- C) Ahlâk
- D) Tarih

(112) DİN KÜL. AHL. BİL. – 2

1. Ahlâki değerleri ifade etmek için kullanılan kavramlar hangi seçenekte verilmiştir?

- A) Sevap-Günah
- B) İyi-Kötü
- C) Helal-Haram
- D) Güzel-Çirkin

2. Değerler hakkında aşağıdakilerden hangisi söylenemez?

- A) Temeli aile ortamında atılır.
- B) Toplumun manevi ihtiyacını karşılar.
- C) Toplum birleştirici rol üstlenir.
- D) Kanunlarla belirlenir.

3. Aşağıdakilerden hangisi millî bir değerdir?

- A) Bayrak
- B) Kâbe
- C) Adalet
- D) Kur'an

4. Aşağıdakilerden hangisi ekonomik bir değerdir?

- A) Topkapı Sarayı
- B) İstiklâl Marşı
- C) Bayramlaşma
- D) Yer altı kaynakları

5. Aşağıdakilerden hangisi İslam dininin etkisiyle oluşmuş bir adettir?

- A) İsim koymak
- B) Düğün Yapmak
- C) Mevlit okutmak
- D) Cenaze töreni

6. Vurulup tertemiz alından uzanmış yatıyor.

Bir hilâl uğruna ya Rab, ne güneşler batıyor!

M. Akif Ersoy

Bu mısralarda hangi değerden söz edilmektedir?

- A) Kültür
- B) Bayrak
- C) Bilim
- D) Medeniyet

7. Seçme ve seçilme hakkı aşağıdakilerden hangisiyle ilgilidir?

- A) Eğitim hakkı
- B) Siyasi haklar
- C) Ekonomik haklar
- D) Sosyal haklar

8. Aşağıdakilerden hangisi toplumu birleştiren temel değerlerden değildir?

- A) Ülkü birliği
- B) Hürriyet ve bağımsızlık
- C) İnsan haklarına saygı
- D) Bilimsel ve teknolojik yenilikler

9. Laiklik ilkesi hangi tarihte anayasaya girmiştir?

- A) 1923
- B) 1927
- C) 1932
- D) 1937

10. Aşağıdakilerden hangisi Atatürk'ün laiklik anlayışı ile bağdaşmaz?

- A) Bilgi
- B) Hürriyet
- C) Taassup
- D) Hoşgörü

11. Aşağıdakilerden hangisi laikliğin amaçlarından değildir?

- A) Bireylerin inanç hürriyetini güvence altına almak
- B) İnsanları aynı inanç etrafında toplamak
- C) Dinin istismar edilmesine engel olmak
- D) Dinde ruhbanlık anlayışının oluşmasını önlemek

12. "Dinimiz; akla, mantığa ve gerçeklere tamamen uymakta ve uygun gelmektedir. Eğer akla, mantığa ve gerçeklere uymamış olsa idi bununla diğer ilahi tabiat kanunları arasında zıtlık olması gerekirdi."

(Atatürk'ün Balıkesir Hutbesinden)

Bu paragrafta, Atatürk'ün vurguladığı iki kavram hangi seçenekte birlikte verilmiştir?

- A) Din-Bilim
- B) İnanç-İbadet
- C) Vicdan-Ahlâk
- D) Bilgi-Cehalet

13. Aşağıdakilerden hangisi Türklerin İslam'ı benimsemelerini olumsuz etkilemiştir?

- A) Türkistan'a giden Müslüman tüccarlar
- B) Abbasilerin izlediği ılımlı politika
- C) Türklerde var olan tek tanrı inancı
- D) Emevilerin ırkçılığa dayalı tutumları

14. • Asıl adı Numan b. Sabit'tir.
• En önemli eseri Fıkh-ı Ekber'dir.
• Türkler genel olarak onun fıkhî görüşleriyle amel eder.

Hakkında bilgi verilen âlim aşağıdakilerden hangisidir?

- A) İmam Şafii
- B) Ebu Hanife
- C) Enes b. Malik
- D) Ahmet b. Hanbel

15. Aşağıdaki âlimlerden hangisi itikad (inanç) konusunda Türkler üzerinde etkili olmuştur?

- A) Eş'ari
- B) Şafii
- C) Maturidi
- D) Ahi Evran

1. OTURUM

(115) DİN KÜL. AHL. BİL. – 5

16. Divan-ı Hikmet adlı eser aşağıdaki mutasavvıflardan hangisine aittir?

- A) Mevlana
- B) Ahmet Yesevi
- C) Yunus Emre
- D) Hacı Bayram Veli

17. Aşağıdaki Türk büyüklerinden hangisi daha çok, esnaf üzerinde etkili olmuş ve ticaret ahlâkının yerleşmesinde rol oynamıştır?

- A) Ahi Evran
- B) Ebu Hanife
- C) Yunus Emre
- D) Hacı Bektaş Veli

18. Aşağıdaki âlimlerden hangisi daha çok tıp alanında çalışmalarlarıyla bilime katkı sağlamıştır?

- A) Uluğ Bey
- B) Ali Kuşçu
- C) Harezmi
- D) İbn-i Sina

19. Kur'an-ı Kerim, Mekke'de indi, Mısır'da okundu, İstanbul'da yazıldı.

Bu ifadede Türklerin, hangi alanda İslam sanatına yaptıkları katkıya işaret edilmektedir?

- A) Hat
- B) Ebru
- C) Tezhip
- D) Minyatür

20. • Müslüman Türk coğrafyacısı ve denizcisidir.
• Dünya haritasını günümüzdeki ölçülere yakın biçimde çizen ilk kişidir.

Bu bilgiler aşağıdaki bilim adamlarından hangisine aittir?

- A) Birunî
- B) Farabî
- C) Piri Reis
- D) Fahreddin Razi

1. Allah'ın önceden bilip takdir ettiği olayların yeri ve zamanı gelince gerçekleşmesine ne denir?

- A) Kader
- B) Kaza
- C) İrade
- D) Tevekkül

2. "Biz her şeyi bir ölçüye göre yarattık." (Kamer suresi, 49. ayet)

Bu ayet aşağıdaki kavramların hangisinden bahsetmektedir?

- A) Rızık
- B) Ecel
- C) Kader
- D) İrade

3. Hayır ve şer hakkında aşağıdakilerden hangisi söylenemez?

- A) Hayrı da şerri de Allah yaratır.
- B) İslam, insanı şerden uzaklaşmaya yöneltir.
- C) Allah, insanlara hayır olanı emretmiştir.
- D) Şer, Allah'ın iradesi ve takdiri dışında gerçekleşir.

4. Rızık ile ilgili aşağıda verilen ifadelerden hangisi İslam'ın kader anlayışına uygun bir tutumdur?

- A) Allah çalışmamın karşılığını bana verecektir.
- B) Niçin çalışayım! Rızıkım varsa bir gün mutlaka beni bulur.
- C) Ben evimden çıkmasam da Allah benim rızıkımı verir.
- D) Rızık Allah tarafından yaratıldığına göre çalışmanın bir anlamı yoktur.

5. "... Kararını verdiğin zaman artık Allah'a dayanıp güven. Çünkü Allah kendisine güvenenleri sever." (Âl-i İmrân suresi, 159. ayet)

Bu ayette aşağıdaki kavramlardan hangisinin tanımından söz edilmektedir?

- A) İbadet
- B) Tedbir
- C) Tevekkül
- D) Cüzi irade

6. Aşağıdakilerden hangisi ibadetlerle ilgili ilkelerden biri olamaz?

- A) Gösterişten uzak olmak
- B) İsteklilik ve samimiyet
- C) Kolaylık ve güç yetirebilirlik
- D) Toplumun beğenisini kazanmak

7. Aşağıdakilerden hangisi ibadetlerde samimi ve içten olmayı ifade eden bir kavram değildir?

- A) Riya
- B) Takva
- C) İhlas
- D) İhsan

8. Farz ibadetlerin yerine getirilmesinde aşağıdakilerden hangisi aranmaz?

- A) Sabırlı olmak
- B) Samimi olmak
- C) Gizli yapmak
- D) Kolayı tercih etmek

9. Aşağıdakilerden hangisi ibadetlerdeki kolaylığa örnek verilemez?

- A) Su bulunmadığında teyemmüm ile abdest alınması
- B) Hasta veya yaşlılıktan dolayı ayakta duramayanların oturarak namaz kılması
- C) Zengin Müslümanların malının kırkta birini zekât olarak vermesi
- D) Yolculuk durumunda dört rekâtlık farz namazın iki rekât olarak kılınması

10. Aşağıdakilerden hangisinde ibadetin toplumsal yararı dile getirilmiştir?

- A) Yardım etme düşüncesini geliştirir.
- B) Birlik ve beraberliği artırır.
- C) Kötü alışkanlıklardan uzak tutar.
- D) Kişinin iç huzurunu güçlendirir.

11. Hz. Muhammed (sav.)'in doğum günü olarak kutlanan kandil aşağıdakilerden hangisidir?

- A) Mevlit
- B) Regaip
- C) Kadir
- D) Miraç

1. OTURUM

12. Hz. Muhammed (sav.), kendisini ziyarete gelen Necranlı Hristiyanların Mescid-i Nebi'nin içinde ibadet etmelerine izin vermiştir.

Peygamberimizin bu tutumu onun hangi özelliği ile ilişkilidir?

- A) Merhameti
B) Sabrı
C) Hoşgörüsü
D) Adaleti

13. Hz. Muhammed (sav.), İslam'ın on üç yıllık Mekke Döneminde müşriklerin her türlü baskı ve zorlamaları karşısında davasından vazgeçmemiştir. Azimli bir şekilde insanları İslam'a davet etmiştir.

Bu metinde Hz. Muhammed (sav.)'in hangi yönüne işaret edilmektedir?

- A) Güvenirliğine
B) Kararlılığına
C) Merhametine
D) Hoşgörüsüne

14. Arayı arayı bulsam izini

İzinin tozuna sürsem yüzümü,
Hak nasip eylese görsem yüzünü
Ya Muhammed canım arzular seni.

Bu dörtlükte Hz. Muhammed (sav.) için öne çıkan duygu aşağıdakilerden hangisidir?

- A) Özlem
B) Saygı
C) Övgü
D) Bağlılık

15. Aşağıdakilerden hangisi Hz. Muhammed (sav.)'in soyunu ifade eden bir kavram **değildir**?

- A) Ehl-i Beyt
B) Seyyid
C) Şerif
D) Şeyh

16. Aşağıdakilerden hangisi İslam düşüncesinde ortaya çıkan yorum farklılıklarının sonuçlarından biri **değildir**?

- A) İslam düşüncesi ve kültürüne zenginlik katmıştır.
B) Farklı mezheplerin ortaya çıkmasına sebep olmuştur.
C) Dini anlamayı ve yaşamayı zorlaştırmıştır.
D) İslam düşüncesinin canlı ve dinamik olmasını sağlamıştır.

17. Aşağıdakilerden hangisi itikadî-siyasî mezheplerden biridir?

- A) Haricilik
B) Hanbelilik
C) Caferilik
D) Malikilik

18. Büyük günah işleyen ne mümindir ne de kâfirdir. Yani iman ile küfür arasında bir yerdedir.

Bu düşünce aşağıdaki mezheplerden hangisine aittir?

- A) Şiiilik
B) Eş'arilik
C) Maturidilik
D) Mutezile

19. • İyi ve kötünün aklın bilgisi dâhilinde olduğunu söylemiştir.
• Büyük günah işleyen bir kimsenin dinden çıkmayacağını savunmuştur.
• Hanefiler itikatta onun görüşlerini benimsemişlerdir.

Hakkında bilgi verilen mezhep imamı aşağıdakilerden hangisidir?

- A) Numan b. Sabit
B) İmam Maturidi
C) Cafer-i Sadık
D) İmam Eş'ari

20. el-Ümm ve er-Risale adlı eserler aşağıdaki âlimlerden hangisine aittir?

- A) İmam Ebu Hanife
B) İmam İdris eş-Şafii
C) İmam Enes b. Malik
D) İmam Ahmet b. Hanbel

(121) FELSEFE – 1

1. Suje ile obje arasındaki ilişki sonucu ortaya çıkan **ürün** aşağıdaki kavramların hangisiyle ifade edilir?

- A) Bilgi
B) Varlık
C) Düşünce
D) Gerçeklik

2. Felsefi bilginin doğruluğu ve yanlışlığı, bilimlerde olduğu gibi sorgulama konusu yapılamaz. Filozofların bakış açıları, yaratıcı zekaları ve yaşam koşulları farklı olduğundan aynı konuda farklı sonuçlara ulaşabilirler.

Bu durum, felsefi bilginin öncelikli hangi özelliğinden kaynaklanmaktadır?

- A) Yığılan bir bilgi türü olmasından
B) Evrensel bir bilgi olmasından
C) Akla dayanmasından
D) Öznel olmasından

3. Aşağıdakilerden hangisi felsefe ve dinin ortak amaçlarındanıdır?

- A) Toplumsal yasaları belirleme
B) İlahi bilgileri insanlara iletme
C) Evreni ve insanı anlama ve açıklama
D) Doğrulara akıl ve akıl yürütme yoluyla ulaşma

4. Varlığın nedenlerini ve temel ilkelerini sorgulayan tanrı, ruh, ölümsüzlük gibi felsefenin ilk ve son sorunlarıyla uğraşan alan aşağıdakilerden hangisidir?

- A) Düalizm
B) Metafizik
C) Apesteriori
D) Fenomenoloji

5. Bilginin ne olduğunu, kaynağını, ilkelerini, yöntemini ve çeşitli bilgi dallarını inceleyen felsefe dalı aşağıdakilerden hangisidir?

- A) Aksiyoloji
B) Antropoloji
C) Epistemoloji
D) Fenomenoloji

1. OTURUM

6. • Akla dayanan bilgi doğru bilgidir.
• Deneye dayanan bilgi doğru bilgidir.
• Olguya dayanan bilgi doğru bilgidir.

Yukarıda bir soruya karşılık filozofların farklı cevapları verilmiştir. Filozofların farklı cevap verdikleri bu soru hangisi olabilir?

- A) Doğru bilginin ölçütü nedir?
B) Varlığın ana maddesi nedir?
C) Bilgi nesneyi doğru olarak yansıtır mı?
D) İnsan varlığı ve nesnelere kesin olarak bilebilir mi?

7. **Aşağıdaki düşünce akımlarından hangisinin anlamı yanlış verilmiştir?**

- A) Entüsyonizm → Deneycilik
B) Pragmatizm → Faydacılık
C) Rasyonalizm → Akılcılık
D) Pozitivizm → Olguculuk

8. • Hiçbir şey var değildir.
• Bir şey olsa bile, bilinemez.
• Bir şey var olsa ve bilinebilse bile, bu bilgi başkalarına aktarılamaz.

Yukarıdaki görüşü savunan filozof ve yaklaşımı hangisinde birlikte verilmiştir?

- A) Kant - Kritisizm
B) Gorgias - Sofizm
C) Platon - Rasyonalizm
D) Comte - Pozitivizm

9. **Varlık anlayışında düalizmi benimseyen, şüpheyi açık – seçik bilgiye ulaşmada araç olarak kullanan filozof aşağıdakilerden hangisidir?**

- A) Demokritos B) Descartes
C) Hobbes D) Hegel

10. **Doğru bilgiye deney, gözlem ve aklın bir arada kullanılarak ulaşılabileceğini savunarak rasyonalizm ve emprizm akımlarının sentezini yapan yaklaşım hangisidir?**

- A) Kritisizm B) Septisizm
C) Pragmatizm D) Entüsyonizm

11. **Doğruluğu ve gerçekliği tek yanlı olarak yalnızca eylemlerin sonuçları ile değerlendiren ve onlara yalnızca sağladığı “fayda” açısından bakan felsefi akım aşağıdakilerden hangisidir?**

- A) Emprizm B) Pozitivizm
C) Pragmatizm D) Entüsyonizm

12. **Bilimin tarihsel süreç içinde gelişimi ile ilgili olarak aşağıda verilenlerden hangisi yanlıştır?**

- A) Rönesans’la birlikte felsefe ve bilim, dinin etkisine tekrar girmiştir.
B) Orta çağda İslam dünyasında bilim alanında büyük gelişmeler yaşanmıştır.
C) İlk çağlarda bilimin mitoloji, din ve büyü ile içi içe olduğu görülür.
D) İlk filozoflar aynı zamanda büyük birer bilim adamıdır.

13. **Bilimi, ürün olarak ele alan yaklaşımın temsilcilerinden Rudolf Carnap’a göre; bilime ait metinleri anlamamızı sağlayan “doğrulama” aşağıdakilerden hangisiyle yapılır?**

- A) Fizikle
B) Felsefeyle
C) Matematikle
D) Sembolik mantıkla

14. Thomas Kuhn’a göre olağan bilim döneminde, paradigma tarafından çözülemeyen bazı sorunlar ortaya çıkar. Paradigma evren hakkında doyurucu yanıtlar verememeye başlar ve bilim bir bunalım dönemi içine girer.

Kuhn’a göre yaşanan bu bunalım dönemi nasıl aşılır?

- A) Takip edilen yöntem gözden geçirilir.
B) Var olan paradigma etrafında sorun çözülmeye çalışılır.
C) Yeni bir paradigma ortaya konularak bilimsel devrim gerçekleşir.
D) Mevcut paradigma farklı bilim insanlarının uygulamasına sunulur.

15. **Aşağıdakilerden hangisi bilimsel bilginin özelliklerinden biri değildir?**

- A) Genellemeler yapar
B) Eleştiricidir
C) Olgusaldır
D) Özneldir

16. Bilim insanlığın tüm problemlerini çözemediği gibi teknolojinin kontrolsüz bir biçimde gelişmesiyle insanlığa yeni problemler de getirmiştir. Bilimsel bilgide diğer bilgi türleri gibi bir bilgi türüdür ve diğerlerinden üstün değildir.

Klasik görüşe yapılan bu eleştirinin nedeni aşağıdakilerden hangisidir?

- A) Felsefeyi bilimsel bir yapıya dönüştürmesi
B) Bilimleri birbirlerine indirgeme- nin imkansız olması
C) Bilime gereğinden fazla değer verilmiş olması
D) Bilimin onu yapan bilim insanından bağımsız olarak düşünülmemesi

17. Thales evrenin ana maddesinin “su” olduğunu, her şeyin sudan oluştuğunu söylerken Anaksimenes ana maddenin “hava” olduğunu Herakleitos ise “ateş” olduğunu savunmuştur.

Yukarıda verilen farklı görüşlerin ortak noktası hangisidir?

- A) Varlığın var olup olmadığını ispatlamaya çalışmaları
B) “Varlığın ana maddesi nedir?” sorusuna yanıt aramaları
C) Varlığı tanımlamanın imkansız olduğunu savunmaları
D) Varlığın sürekli bir değişim içinde olduğunu söylemeye çalışmaları

18. **Felsefede hiçbir şeyin var olmadığını, hiçbir şeyin bilineme- yeceğini savunan öğretiye ne ad verilir?**

- A) Metafizik B) Ontoloji
C) Anarşizm D) Nihilizm

1. OTURUM

19. Aşağıdakilerden hangisi Platon'un varlık konusundaki görüşlerindedir?
- A) Her şeyin temelinde diyalektik vardır.
B) Her varlığın bir maddesi bir de formu vardır.
C) Gerçekte var olan varlıklar idealar dünyasındadır.
D) Her şey madde ile başlar, düşünce maddenin ürünüdür.
20. Aşağıdakilerden hangisi materyalizme ait bir düşünce olamaz?
- A) Bütün varlıklar cisimseldir.
B) Varlığın ana maddesi maddedir.
C) Madde düşünceden bağımsız olarak vardır.
D) Madde bir hayalden ibarettir var olan her şey zihinseldir.

(123) SEÇMELİ FELSEFE – 1

1. Felsefenin sözcük anlamı aşağıdakilerden hangisidir?
- A) Bilgelik Sevgisi
B) Dogmatizm
C) Nesnellik
D) Varlık
2. I. Amacı güzeli yakalamaktır.
II. İnanç esasına dayanır.
III. Yaratıcı insan aklının ürünüdür.
IV. Sistemli ve tutarlı bir bilgidir.
- Yukarıda verilen özelliklerden hangileri sanat bilgisine aittir?
- A) I ve II
B) I ve III
C) II ve IV
D) II, III ve IV
3. Aşağıdakilerden hangisi metafiziğin ele aldığı konulardan değildir?
- A) Tanrı ve ruhla ilgili problemler
B) Kozmolojik problemler
C) Ontolojik problemler
D) Bilimsel problemler
4. Aşağıdakilerden hangisi bilgi kuramının temel kavramlarından değildir?
- A) Vahiy
B) Erdem
C) Temellendirme
D) Sorumluluk

5. • Doğru bilgiye ulaşmak mümkün müdür?
• Bilgimiz kesin midir?
• Doğru bilginin ölçütü nedir?
- Yukarıdaki sorular hangi felsefe disiplinine aittir?
- A) Varlık felsefesi
B) Bilgi felsefesi
C) Sanat felsefesi
D) Din felsefesi
6. Protagoras'ın "İnsan her şeyin ölçüsüdür, herkesin üzerinde uzlaşabileceği bir doğru yoktur bu yüzden yargıdan kaçınmalıyız." sözünden aşağıdaki sonuçlardan hangisine ulaşılabilir?
- A) Duyum ve algılar nesneldir.
B) Doğrular kişiden kişiye değişmez.
C) Herkesin üzerinde uzlaşabileceği tek bir doğru vardır.
D) Herhangi bir konuda genel geçer bir yargıda bulunamayız.
7. Sokrates "Ebe olan annem nasıl var olan bir bebeğin dünyaya gelmesine yardımcı oluyorsa öğretmende öğrencisine yeni bir şey öğretmez; ancak onun aklında var olan bilgileri gün ışığına çıkarır. Çünkü bilgiler aklımızda doğuştan vardır" der.
- Sokrates'e göre öğretmenin işlevi aşağıdakilerden hangisidir?
- A) Var olan bilgileri açığa çıkartmak.
B) Öğrencisine tecrübelerini vermek.
C) Ebelik mesleğini tanıtmak.
D) Faydalı bilgileri öğretmek.
8. Aristoteles ve Platinos'un görüşlerinden yararlanarak bilginin kaynağını duyu, akıl ve nazar olarak belirler. Duyu ve aklın doğrudan, nazarın ise dolaylı bilgiler verdiğini söyler. İslam dinini felsefi bir temele oturtmaya çalışan bu düşünür aşağıdakilerden hangisidir?
- A) Feriduddin Attar
B) İbn-i Haldun
C) İbn-i Sina
D) Farabi

9. Aşağıdakilerden hangisi Empirizm görüşünü savunan filozoflardandır?
- A) I. Kant
B) J. Locke
C) E. Husserl
D) W. James
10. Var olan bilgilerimizle bozulan bilgisayarımızı tamir edemiyorsak, bilgisayarı tamir ettiren bilgiler daha değerlidir.
- Yukarıdaki düşünce hangi felsefe akımına aittir?
- A) Akılcılık
B) Eleştiricilik
C) Faydacılık
D) Sezgicilik
11. Bacon, doğruya ulaşmanın yolunun tek tek olaylardan genel sonuçlara giden genellemelere ulaşmak olduğunu söyler.
- Bacon'a göre doğruya ulaşmada izlenen yöntem aşağıdaki hangisidir?
- A) Tümdengelim
B) Tümevarım
C) Analoji
D) Analiz
12. Aşağıdakilerden hangisi bilim felsefesinin temel sorularından biri değildir?
- A) Bilimsel bilginin özellikleri nelerdir?
B) Bilimsel felsefe ilkeleri nelerdir?
C) Bilimsel bilginin değeri nedir?
D) Bilimin kavramları nelerdir?
13. Reichenbach'a göre bilimselliğin ölçütü doğrulanabilirliktir. Doğrulanabilen önermeler anlamlıdır ve anlamlı önermeler doğruluk değerine sahiptir. Doğruluk değerine sahip olmayan önermeler bilim dışı önermelerdir.
- Buna göre aşağıdakilerden hangisi bilimsel önermeye örnek olamaz?
- A) Ruh ölümsüzdür.
B) Bugün hava yağmurludur.
C) Ahmet'in boyu 115 cm'dir.
D) Bu vazo camdan yapılmıştır.

1. OTURUM

14. Bilim sürekli gelişen hazine gibidir. Her bilim dalı ve bilim insanı hazineye bir şeyler ekler, yanlışları ayıklar. Kopernik'in güneş merkezli evren anlayışını daha sonraki bilim insanları benimsemiş ve geliştirmişlerdir.

Bu düşünceye göre aşağıdakilerden hangisine ulaşılabilir?

- A) Bilimler yanlışları düzelterek ilerleme özelliğine sahiptir.
- B) Bilim adamları ele aldığı konularda yanılmazlar.
- C) Her şeyi bilim sayesinde bilebiliriz.
- D) Bilimsel bilgi değişmeyen bilgidir.

15. Bilim, tek tek olguları değil aynı türden tüm olguları açıklar. Dolayısıyla bilimin ulaştığı sonuçlar herkes tarafından kabul gören genel geçer görüşlerdir.

Yukarıda bilimin hangi özelliği vurgulanmaktadır?

- A) Sistematiği olma
- B) Mantıksal olma
- C) Genelleyici olma
- D) Eleştirici olma

16. Olgular arası ilişkilerden ya da bilimsel açıklamalardan yararlanarak henüz olmamış bir olguyu önceden kestirmeye ne denir?

- A) Genelleme
- B) Özdeşlik
- C) Kuram
- D) Ön deyi

17. Herakleitos'a göre evren, sürekli değişim ve akış halindedir. Evrende değişmeyen hiçbir şey yoktur. Bu durumu "iki kez yıkanamazsınız aynı ırmakta" sözüyle ifade eder.

Herakleitos'un bu görüşü aşağıdakilerden hangisine uygundur?

- A) Hiçbir şey değişmez.
- B) Varlık statik bir yapıya sahiptir.
- C) Varlık sürekli değişim halindedir.
- D) Varlığın var olmasıyla ilgili bir kesinlik yoktur.

18. Ona göre birbirinden farklı iki dünya vardır. Nesnel dünya ve idealler dünyası. Gerçekte var olan varlıklar idealardır. Nesnel dünyasındaki varlıklar ise ideallerin görünüşleridir düşüncesi hangi filozofa aittir?

- A) Platon
- B) Herakleitos
- C) Aristoteles
- D) Demokritos

19. Thomas Hobbes'a göre gerçekte var olan, yer kaplayan cisimlerdir. Her şey maddenin şekil almış hali olan cisimlerden meydana gelmiştir. Ona göre her varlık cisimdir.

Bu düşünce aşağıdaki akımlardan hangisine aittir?

- A) Düalizm
- B) İdealizm
- C) Fenomenoloji
- D) Materyalizm

20. I. Varlık düşüncedir.
II. Varlık maddedir.
III. Varlık hem madde hem de düşüncedir.

Varlıkla ilgili açıklaması yapılmayan kavram aşağıdakilerden hangisidir?

- A) Materyalizm
- B) Fenomenoloji
- C) Düalizm
- D) İdealizm

(132) TARİH – 2

1. "Bizans" adıyla da anılan Doğu Roma İmparatorluğu'nun başkenti, aşağıdakilerden hangisidir?

- A) İstanbul
- B) Kudüs
- C) Roma
- D) İskenderiye

2. İslam öncesinde Arap Yarımadası'ndaki insanların büyük çoğunluğunun dinî inancı, aşağıdakilerden hangisidir?

- A) İslamiyet
- B) Budizm
- C) Putperestlik
- D) Zerdüştlük

3. Hz. Muhammed'in doğum yılı ve yeri, aşağıdakilerden hangisinde doğru olarak verilmiştir?

- A) 610 - Medine
- B) 571 - Mekke
- C) 610 - Mekke
- D) 632 - Medine

4. Hendek Savaşı'nda Medine'nin etrafına hendek kazıp savunma savaşı yapılmasını öneren sahabe, aşağıdakilerden hangisidir?

- A) Hz. Ömer
- B) Halid Bin Velid
- C) Zeyd bin Sabit
- D) Selman-ı Farisi

5. İslam tarihinde Arabistan dışına yapılan ilk sefer, aşağıdakilerden hangisidir?

- A) Mute Seferi
- B) Tebük Seferi
- C) Taif Seferi
- D) İspanya Seferi

6. Aşağıdaki devletlerden hangisi zamanında halifelik "babadan oğula" geçen bir saltanat hâline dönüşmüştür?

- A) Abbasiler
- B) Emeviler
- C) Gazneliler
- D) Karahanlılar

7. Abbasi Halifesi Mutasım'ın özellikle Türklerin yerleşmesi ve savaşçı özelliklerini kaybetmelerini için kurduğu şehir, aşağıdakilerden hangisidir?

- A) İstanbul
- B) Gırnata
- C) Bağdat
- D) Samarra

8. 945 yılında Büveyhoğulları Bağdat'ı işgal ederek halifeyi baskı altına almıştır.

Halifeyi bu baskıdan kurtararak "Sultan" unvanı alan Gazne hükümdarı, aşağıdakilerden hangisidir?

- A) Mesud
- B) Mahmud
- C) Alptegin
- D) Sebük Tigin

9. Abbasilerde devletin gelir ve giderleriyle ilgilenen divan, aşağıdakilerden hangisidir?

- A) Divan-ı İnşa
- B) Divan-ü'l Ceys
- C) Divan-ı Mezalim
- D) Divan-ı Beyt-ü'l Mal

1. OTURUM

(136) TARİH – 6

10. Türklerin İslam dinini yakından tanıma imkânına kavuşarak kitleler hâlinde Müslüman olmasına neden olan savaş, aşağıdakilerden hangisidir?

- A) Talas Savaşı
- B) Puvatya Savaşı
- C) Malazgirt Savaşı
- D) Dandanakan Savaşı

11. Aşağıdaki devletlerden hangisi Mısır'da bir dönem egemenlik kuran Türk devletlerinden biri değildir?

- A) İhşidiler
- B) Tolunoğulları
- C) Osmanlılar
- D) Karahanlılar

12. Aşağıdakilerden hangisi tarihte "İlk Müslüman Türk Hükümdarı" unvanını almıştır?

- A) Bilge Kül Kadir Han
- B) Yusuf Kadir Han
- C) Satuk Buğra Han
- D) Tabgaç Buğra Han

13. • 11. yüzyılda yaşamış Türk dil bilginidir.
• En ünlü eseri Divan-ı Lügat-i Türk'tür.

Yukarıda hakkında bilgi verilen Türk bilgini, aşağıdakilerden hangisidir?

- A) Ahmet Yesevi
- B) Yusuf Has Hacip
- C) Kaşgarlı Mahmut
- D) Yükneklî Edip Ahmet

14. Büyük Selçuklu Devleti ile Bizans arasında yapılan ilk savaş, aşağıdakilerden hangisidir?

- A) Pasinler Savaşı
- B) Malazgirt Savaşı
- C) Koyunhisar Savaşı
- D) Dandanakan Savaşı

15. Tuğrul Bey'in Abbasi Halifesinden "Doğunun ve Batının Sultanı" unvanını alması, Türk ve İslam tarihinde aşağıdaki sonuçlardan hangisini ortaya çıkarmıştır?

- A) Halifelik makamı Türklerin eline geçmiştir.
- B) Türkler, İslam diniyle tanışma imkânı bulmuşlardır.
- C) Türkler, halifelik makamına son vermişlerdir.
- D) İslam dünyasının siyasi liderliği Türklerin eline geçmiştir.

16. Selçuklularda, aşağıdaki mimari eserlerden hangisinin yaptırılış nedeni, ticareti geliştirmek ve buldukları bölgede güvenliği sağlamaktır?

- A) Medrese
- B) Kervansaray
- C) Darüşşifa
- D) İmarethane

17. Aşağıdaki olaylardan hangisi Gaznelilerin yıkılmasında daha çok etkili olmuştur?

- A) Taht kavgaları
- B) Gurluların baskıları
- C) Dandanakan Savaşı
- D) Şii Buvéyhoğullarının faaliyetleri

18. Nizamiye Medreseleri, aşağıdaki Türk - İslam devletlerinden hangisinin dönemine aittir?

- A) Gazneliler
- B) Osmanlılar
- C) Karahanlılar
- D) Büyük Selçuklular

19. Selçuklularda, vergi gelirlerinin Sultana bırakıldığı topraklar, aşağıdakilerden hangisidir?

- A) Has
- B) İkte
- C) Vakıf
- D) Mülk

20. Selçukluların Türk mimarisine kazandırdıkları yapı şekli, aşağıdakilerden hangisidir?

- A) Kümbetler
- B) Kervansaraylar
- C) Medreseler
- D) Darüşşifalar

1. Hz. Muhammed 571 yılında aşağıdaki şehirlerin hangisinde dünyaya gelmiştir?

- A) Medine
- B) Kudüs
- C) Mekke
- D) Cidde

2. Kuran-ı Kerim'in çoğaltılması, aşağıdaki hangi halife zamanında olmuştur?

- A) Hz. Ömer
- B) Hz. Osman
- C) Hz. Ebubekir
- D) Hz. Ali

3. Hz. Muhammed'in "Muhammed'ül Emin" unvanıyla tanınması, aşağıdaki hangi özelliğinden dolayıdır?

- A) Yardımsever olması
- B) Güvenilir olması
- C) Cömert olması
- D) Sabırlı olması

4. Abbasiler Dönemi'nde İslam Devleti'ni Bizans tehlikesine karşı korumak amacıyla Türklerin yerleştirildiği sınır şehirlerine ne ad verilmiştir?

- A) Maveraünnehir
- B) Harzem
- C) Talas
- D) Avasım

5. Aşağıdakilerden hangisi Mısır'da kurulan ikinci Türk-İslam devletidir?

- A) Karahanlılar
- B) Harzemşahlar
- C) İhşidoğulları
- D) Tolunoğulları

6. Aşağıdaki devletlerden hangisinin resmî dili Türkçedir?

- A) Gazneliler
- B) Karahanlılar
- C) Tolunoğulları
- D) Büyük Selçuklular

1. OTURUM

7. **Gazneli Mahmut'un Hint seferlerinin en önemli amacı, aşağıdakilerden hangisidir?**

- A) İslamiyeti yayma
- B) İpek yolunu ele geçirme
- C) Anadolu topraklarına hâkim olma
- D) Ülkenin huzur ve güvenliğini sağlama

8. **Türk tarihinde ilk defa "Sultan" unvanını kullanan hükümdar, aşağıdakilerden hangisidir?**

- A) Çağrı Bey
- B) Selçuk Bey
- C) Gazneli Mahmut
- D) Selahattin Eyyubi

9. **Büyük Selçuklu Devleti'nin Bizans ile yaptığı ilk savaş aşağıdakilerden hangisidir?**

- A) Katvan Savaşı
- B) Pasinler Savaşı
- C) Köseadağ Savaşı
- D) Dandanakan Savaşı

10. **Aşağıdakilerden hangisi, Büyük Selçuklu Devleti'nin yıkılma nedenlerinden biri değildir?**

- A) Atabeylerin bölgelerinde güçlenmeleri
- B) Oğuzların devlete karşı isyanı
- C) Batınilerin zararlı çalışmaları
- D) Osmanlı Devleti'nin saldırıları

11. **Aşağıdakilerden hangisi, Büyük Selçuklu Devleti'nin toprakları üzerinde kurulan devletlerden biri değildir?**

- A) Suriye Selçukluları
- B) Türkiye Selçukluları
- C) Medine Selçukluları
- D) Irak ve Horasan Selçukluları

12. **Harzemşahlar Devleti'nin yıkılışına sebep olan devlet, aşağıdakilerden hangisidir?**

- A) Anadolu Selçukluları
- B) Büveyhoğulları
- C) Karahanlı
- D) Gazne

13. **Türk-İslam devletlerinde ülke, hükümdar ailesinin ortak malı sayılmıştır. Tahta geçme konusunda belli bir veraset sistemi yoktur.**

Tahta geçmenin belirli bir kurala bağlanmamış olması, aşağıdakilerden hangisine neden olmuştur?

- A) Taht kavgalarına
- B) Devletin zenginleşmesine
- C) Sınırların genişlemesine
- D) Merkezî otoritenin güçlenmesine

14. **Aşağıdakilerden hangisi Selçuklularda hükümdarlık sembollerinden biri değildir?**

- A) Para bastırma
- B) Hutbe okutma
- C) Bayrak
- D) Kopuz

15. **Türk-İslam devletlerinde devlet yönetiminde hükümdardan sonra en yetkili kişi, aşağıdakilerden hangisidir?**

- A) Hacıp
- B) Vezir
- C) İlbaşı
- D) Çavuş

16. **Türklerin İslamiyet'i kabullerinden sonra yazılan ilk İslami Türkçe eser, aşağıdakilerden hangisidir?**

- A) Şehname
- B) Tarih-i Yemin
- C) Kutadgu Bilig
- D) Divan-ı Hikmet

17. **Aşağıdakilerden hangisi Türk-İslam devletlerinde toprak sistemi ile ilgili değildir?**

- A) İhta
- B) Has
- C) Mülk
- D) Ulak

18. **İsmi Latinceye "Alkhorizmi", Fransızcaya "Algorithme" şeklinde geçen, 9. yüzyılda yetişen, cebir alanında ilk defa eser yazan Müslüman - Türk matematik, coğrafya ve astronomi âlimi, aşağıdakilerden hangisidir?**

- A) Gazali
- B) Cüveyni
- C) Harezmi
- D) Ömer Hayyam

19. **Fatımi Devleti'ni yıkan, Haçlılardan Kudüs'ü geri alan, Suriye ve Filistin üzerindeki Hristiyan üstünlüğüne son veren**

devlet, aşağıdakilerden hangisidir?

- A) Memlükler
- B) Fatımiler
- C) Eyyübiler
- D) Moğollar

20. **Memlük Devleti'nin resmî dili, aşağıdakilerden hangisidir?**

- A) Arapça
- B) Türkçe
- C) Farsça
- D) Çince

(151) COĞRAFYA – 1

1. I. Rüzgar → Hidrosfer
II. Erozyon → Litosfer
III. Buharlaşma → Atmosfer

Yukarıda verilen doğal olaylardan hangileri gerçekleştiği doğal ortam ile doğru eşleştirilmiştir?

- A) Yalnız I
- B) Yalnız II
- C) I ve III
- D) II ve III

2. **Aşağıdakilerden hangisi klimatoloji biliminin alt dallarındandır?**

- A) Meteoroloji
- B) Pedoloji
- C) Jeofizik
- D) Litoloji

3. **Aşağıda verilen, haritalarda yer şekillerini gösterme yöntemlerinden hangisinin kullanımı daha yaygındır?**

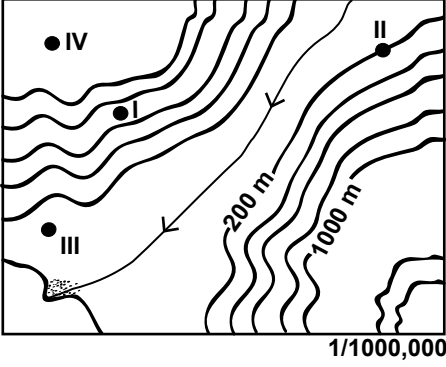
- A) İzohips yöntemi
- B) Tarama yöntemi
- C) Kabartma yöntemi
- D) Gölgeleştirme yöntemi

4. **Bir yerin enlem derecesine bakarak aşağıdakilerden hangisi hakkında yorum yapılabilir?**

- A) Yükseltisi
- B) Yerel saati
- C) Sıcaklık ortalaması
- D) Başlangıç meridyenine uzaklığı

1. OTURUM

5. ve 6. soruları verilen izohips haritasına göre cevaplayınız.



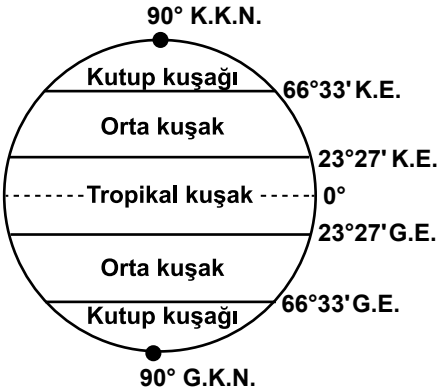
5. Verilen haritada hangi iki nokta arasındaki yükselti farkı en azdır?

- A) I ve II B) II ve III
C) II ve IV D) III ve IV

6. Verilen haritada hangi nokta plato üzerindedir?

- A) I B) II C) III D) IV

7. Şekilde dünya üzerinde matematik iklim kuşakları verilmiştir.



Bu kuşaklar belirlenirken aşağıdakilerden hangisi dikkate alınmıştır?

- A) Eksen eğikliği
B) Yükselti değerleri
C) Dünya'nın günlük hareketi
D) Kara ve denizlerin dağılışı

8. Aşağıda verilen gazlardan hangisinin atmosfer içerisindeki oranı değişme gösterir?

- A) Su buharı B) Oksijen
C) Helyum D) Azot

9. I. Gece-gündüz süresinin yıl boyunca değişmesi
II. Ekvator'dan kutuplara gidildikçe çizgisel hızın azalması
III. Ardışık iki meridyen arasında 4 dk'lık zaman farkının olması
IV. Kalıcı kar sınırının Ekvator'da daha yüksek olması

Yukarıda verilenlerden hangileri Dünya'nın küresel bir şekle sahip olması sonucu oluşmuştur?

- A) I ve II B) I ve III
C) II ve IV D) III ve IV

10. I. Yer şekilleri
II. Ekvator'a olan uzaklığı
III. Başlangıç meridyenine uzaklığı
Yukarıdakilerden hangisi bir yerin sıcaklığı üzerinde etkili değildir?

- A) Yalnız III B) I ve II
C) I ve III D) II ve III

11. I. Kalınlığı her yerde aynıdır.
II. İklim olayları bu katmanda gerçekleşir.
III. Bu katmanda yükseldikçe sıcaklık artar.
IV. Atmosferdeki gazların yaklaşık % 75'i bu katmanda bulunur.

Troposfer ile ilgili olarak yukarıda verilenlerden hangisi yanlıştır?

- A) I ve II B) II ve III
C) I ve III D) II ve IV

12. I. Dünya'nın şekli
II. Dünya'nın günlük hareketi
III. Dünya'nın yıllık hareketi
IV. Kara ve denizlerin farklı ısınma özelliği

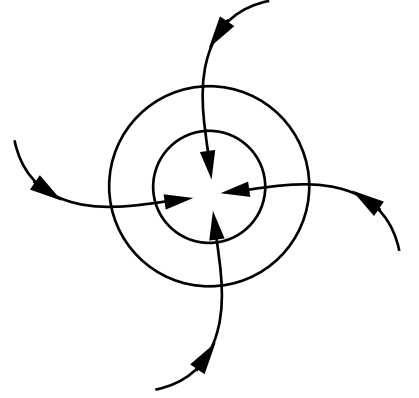
Muson rüzgarlarının oluşumunda yukarıdakilerden hangileri etkili olmuştur?

- A) I ve II B) II ve III
C) III ve IV D) II ve IV

13. Aşağıda verilenlerden hangisi bir yerin basınç değerini etkileyen etmenler arasında gösterilemez?

- A) Yükselti B) Sıcaklık
C) Yer çekimi D) Bitki örtüsü

14. Aşağıdaki şekilde bir yerde görülen hava hareketleri gösterilmiştir.



Buna göre bu yer ile ilgili olarak aşağıdakilerden hangisi söylenemez?

- A) Yağış oluşma ihtimali yüksektir.
B) 21 Aralıkta yaz mevsimi başlar.
C) Çevresine göre alçak basınç alanıdır.
D) Hava dikey yönde yükselici özellik gösterir.

15. Çöl bölgelerinde gece ile gündüz arasındaki sıcaklık farkının fazla olmasının esas nedeni nedir?

- A) Mutlak nemin az olması
B) Bitki örtüsünün zayıf olması
C) Rüzgar aşındırmasının fazla olması
D) Çöllerin dönenceler çevresinde bulunması

16. I. Rüzgar
II. Sis
III. Bulut
IV. Okyanus akıntıları

Yukarıdakilerden hangilerin bir yerden başka bir yere taşınmasında etkili olmaktadır?

- A) I ve II B) II ve III
C) I ve IV D) II ve IV

17. Okyanus tabanlarında bulunan ve "okyanusal kabuk" olarak da adlandırılan yer kabuğu tabakası aşağıdakilerden hangisidir?

- A) Sial B) Sima
C) Manto D) Magma

18. Aşağıdaki doğal olaylardan hangisi kaynağını yerin iç yapısından alır?

- A) Sel B) Deprem
C) Heyelan D) Çığ

1. OTURUM

19. Aşağıdaki doğal unsurlardan hangisi yer kürenin iç yapısı hakkında bilgi verir?

- A) İklim
- B) Akarsular
- C) Bitki örtüsü
- D) Sıcak su kaynakları

20. Aşağıdaki yer şekillerinden hangisinin oluşumunda rüzgarların etkisi daha fazladır?

- A) Polye
- B) Falez
- C) Traverten
- D) Moren seti

(155) COĞRAFYA – 5

1. Bitkilerin yeryüzüne dağılışı aşağıdakilerden hangisinin dağılışını doğrudan etkiler?

- A) İklim tipleri
- B) Kayaç yapısı
- C) Hayvan türleri
- D) Yer şekilleri

2. Tundra biyomunda aşağıdaki canlı türlerinden hangisi görülmez?

- A) Kutup tilkisi
- B) Ren geyiği
- C) Kaya yosunları
- D) Geniş yapraklı ağaçlar

3. Karasal biyomlar genellikle hangi coğrafi özelliğe göre sınıflandırılır?

- A) Yer şekillerine göre
- B) Toprak özelliklerine göre
- C) Bitki örtüsüne göre
- D) Enlem değerlerine göre

4. Aşağıdaki olaylardan hangisi bir canlı neslinin yok olmasına neden olabilir?

- A) Tsunami
- B) Deprem
- C) Küresel ısınma
- D) Volkanik patlamalar

5. Aşağıdakilerden hangisi bir ekosistemi oluşturan canlı öğelerdendir?

- A) Karbonhidrat
- B) Mikroorganizmalar
- C) Karbondioksit
- D) Protein

6. Aşağıdaki olaylardan hangisi su döngüsü içerisinde yer almaz?

- A) Buharlaştırma
- B) Terleme
- C) Başkalaşım
- D) Yoğuşma

7. Sanayisi gelişmiş ve iş gücü ihtiyacı fazla olan bir ülke öncelikle aşağıdakilerden hangisini uygulamalıdır?

- A) Doğal kaynakları verimli kullanmak
- B) Etkili bir nüfus politikası izlemek
- C) Tarım teşviklerini arttırmak
- D) İç turizm faaliyetlerine yatırım yapmak

8. Bir ülkede uygulanan nüfus politikası aşağıdakilerden hangisini daha az etkiler?

- A) Turizm faaliyetleri
- B) Tasarruf miktarı
- C) İş gücü ihtiyacı
- D) Eğitim durumu

9. Aşağıdaki olaylardan hangisi dünya genelinde şehirleşmenin büyük bir hız kazanmasında etkili olmuştur?

- A) Yerleşik hayata geçiş
- B) Pusulanın icadı
- C) Sanayi inkılabı
- D) Coğrafi keşifler

10. Şam şehrinin günümüzde büyük bir ulaşım şehri olmasında aşağıdakilerden hangisinin etkisi daha çoktur?

- A) Nüfus artış hızının fazla olması
- B) İslam kültür ve medeniyetinin gelişmiş olması
- C) Tarım ve hayvancılık faaliyetlerinin yaygın olması
- D) Geçmişte kervan yollarının keşif noktasında bulunması

11. Aşağıdakilerden hangisinde dağıtım faaliyetlerinden söz edilmiştir?

- A) Gemilerde balıkların dondurularak işlenmesi balık üretimini arttırmıştır.
- B) Sanayinin gelişmesiyle el tezgahlarının yerini fabrikalar almıştır.
- C) Nitelikli iş gücünün azalması üretimi olumsuz etkilemektedir.
- D) Kahve fazla tüketildiğinden ana vatani dışında da üretilmektedir.

12. Bir şehrin sanayisinin gelişmesinde aşağıdakilerden hangisinin etkisi en azdır?

- A) Bilgi ve teknoloji birikiminin
- B) Çevresindeki enerji kaynaklarının
- C) Ulaşım ağının
- D) Doğal güzelliklerinin

13. İnsanların ekonomik faaliyetlerinin temelinde doğal kaynaklar yer almaktadır.

Aşağıdakilerden hangisi bu duruma örnek olarak gösterilemez?

- A) Nüfus artışının çevre kirliliğine neden olması
- B) Ağaçların yapı malzemesi olarak kullanılması
- C) Yer şekillerinin turizm faaliyetlerine konu olması
- D) Toprağın işlenmesi

14. Ülkemizin aşağıdaki özelliklerinden hangisi, siyasi ve ekonomik durumunu daha çok etkilemiştir?

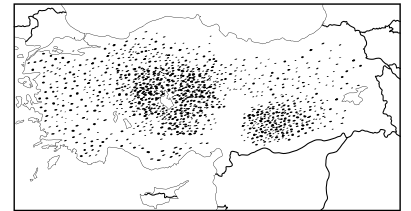
- A) Dağlık bir ülke olması
- B) Yarım ada üzerinde bulunması
- C) Orta kuşakta bulunması
- D) Çanakkale ve İstanbul boğazlarına sahip olması

15. Doğu Anadolu Bölgesi'nde; fazla eğimli araziler, az eğimli arazilerden daha çok yer kaplar.

Bu durum aşağıdakilerden hangisini olumlu yönde etkilemiştir?

- A) Tarım alanlarını
- B) Enerji üretimini
- C) Ulaşım ağını
- D) Yerleşme faaliyetlerini

16.



Haritada üretim alanları gösterilen tarım ürünü aşağıdakilerden hangisidir?

- A) Turunçgil
- B) Buğday
- C) Fındık
- D) Zeytin

1. OTURUM

17. Ülkemizde yetiştirilen aşağıdaki tarım ürünlerinden hangisi yağ üretiminde kullanılmaz?

- A) Zeytin B) Ayçiçeği
C) Arpa D) Soya fasülyesi

18. Bolu çevresinde kümes hayvancılığının yoğun olmasının en önemli nedeni aşağıdakilerden hangisidir?

- A) İklimin elverişli olması
B) Yer şekillerinin etkisi
C) Kalabalık şehirlere yakın olması
D) Yeterli sermayenin burda bulunması

19. • Çeliğe sertlik vererek darbelere karşı direnç kazandırır.
• Elazığ (Guleman), Bayburt (Kopdağı), Muğla (Fethiye, Köyceğiz) önemli yataklarıdır.

Yukarıda bahsedilen maden aşağıdakilerden hangisidir?

- A) Krom B) Boksit
C) Bor D) Magnezyum

20. Ülkemizde en fazla can ve mal kaybına neden olan doğal afet aşağıdakilerden hangisidir?

- A) Deprem B) Heyelan
C) Sel D) Orman yangını

(157) COĞRAFYA – 7

1. 1556'da yaklaşık 830.000 insanın ölümüne neden olan şiddetli deprem hangi ülkede yaşanmıştır?

- A) Çin B) İran
C) Meksika D) Afganistan

2. Kuraklık aşağıdaki sektörlerden hangisi üzerinde daha olumsuz etkiye neden olur?

- A) İnşaat B) Tarım
C) Sanayi D) Ticaret

3. ABD California'daki Central Valley Projesi hangi amaçla yapılmıştır?

- A) Geri dönüşüm
B) Nükleer enerji
C) Tarımsal üretim
D) Haberleşme sistemleri

4. Aşağıdakilerden hangisi küresel ısınmaya bağlı olarak ortaya çıkan kuraklığın kanıtı olamaz?

- A) Buzulların eriyip daralması
B) Akarsuların akımlarının azalması
C) Göllerin yüz ölçümünün küçülmesi
D) Tarımsal üretim miktarlarının artması

5. Aşağıdakilerden hangisi İnkâ Uygarlığını, Mısır ve Mezopotamya uygarlıklarından ayıran önemli bir farklılıktır?

- A) Akarsuların etrafındaki topraklarda sulamalı tarım yapmaları
B) Nehir taşımacılığı ve vergi sisteminde gelişmiş olmaları
C) Şehirlerini çok yüksek ve dağlık yerlerde kurmaları
D) Ada ve yarımadalardan balık avcılığı konusunda uzmanlaşmaları

6. Aşağıdaki ekonomik faaliyetlerden hangisi, bir kasabanın kültürel özelliklerini daha hızlı değiştirebilir?

- A) Tarım B) Hayvancılık
C) Turizm D) Madencilik

7. Aşağıdakilerden hangisi Ruhr Sanayi Bölgesi'nde son dönemlerde hızla gelişme gösteren sektörler arasında gösterilemez?

- A) Lojistik
B) Demir-çelik
C) Alternatif enerji
D) Bilişim teknolojisi

8. I. İş gücü
II. Verimli topraklar
III. Yer altı kaynakları
IV. Su kaynakları

Yukarıda verilenlerden hangileri İlk Çağ'da yerleşim yerlerinin seçilmesinde etkili olmuştur?

- A) Yalnız I B) I ve III
C) II ve IV D) II, III ve IV

9. Aşağıdakilerden hangisi düzensiz kentleşmeye örnek olarak gösterilebilir?

- A) Ulaşım sistemlerinin hızlı gelişimi
B) Lüks ve pahalı konut yapımının artması
C) Sağlık kurumlarının sayısının artması
D) Sanayi tesislerinin yerleşim alanları içinde kalması

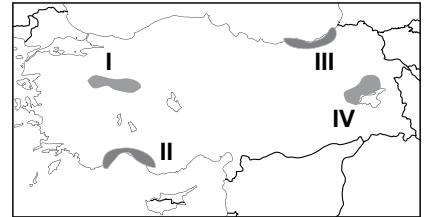
10. Ülkemizin hemen hemen her bölgesinde, farklı dönemlere ait tarihi yapıların bulunması aşağıdakilerden hangisine kanıt olarak gösterilebilir?

- A) Farklı iklim tiplerinin görülmesi
B) Doğal afetlerin sıklıkla yaşanması
C) Tarih boyunca farklı medeniyetlere ev sahibi olması
D) Enerji kaynağı bakımından zengin olması

11. Aşağıdaki şehirlerden hangisinin 2015'de nüfusunun 20 milyonu aşması beklenmemektedir?

- A) Berlin B) Bombay
C) Delhi D) Mexico City

12.



Haritada numaralandırılarak verilen taralı alanlardan hangisinde turizm faaliyetleri daha yaygındır?

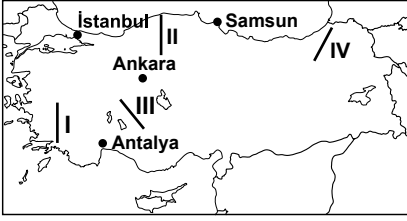
- A) I B) II C) III D) IV

13. Üretim merkezleri ile tüketim merkezleri arasında ticaretin gelişmesini aşağıdaki ekonomik faaliyetlerden hangisi daha çok etkiler?

- A) Ulaşım B) Madencilik
C) Turizm D) Tarım

1. OTURUM

14. Engebeli alanlar, karayolu ve demir yolu ulaşımını en fazla zorlaştıran unsurlardır.



Buna göre haritada numaralandırılarak verilen hatlardan hangisi, bu olumsuz durumdan **daha az** etkilenir?

- A) I B) II C) III D) IV

15. Aşağıdakilerden hangisi yurdumuzda demir yolu yapımının hız kazandığı dönemdir?

- A) 1923 - 1940
B) 1950 - 1960
C) 1960 - 1980
D) 1980 - 2000

16. Aşağıdakilerden hangisinin hava yolu taşımacılığı üzerinde etkisi daha azdır?

- A) Yüz ölçümü
B) Bitki örtüsü
C) Nüfus miktarı
D) Stratejik konumu

17. Avrupa ülkelerini Orta Doğu'ya bağlayan kara yolları Türkiye üzerinden geçer.

Buna göre aşağıda verilen hangi iki ülke arasındaki kara yolu Türkiye üzerinden **geçmez**?

- A) Avusturya → Irak
B) Romanya → İran
C) Ukrayna → Kazakistan
D) Bulgaristan → Azerbaycan

18. Bölge ve ülke imkanlarının gücünü tanıtmak, üretici ile tüketiciyi buluşturmak amacıyla yapılan organizasyonlara ne ad verilir?

- A) Panayır B) Hal
C) Pazar D) Fuar

19. Aşağıdakilerden hangisinin deniz turizmi üzerindeki etkisi daha azdır?

- A) Kıyı uzunluğu
B) Bitki örtüsü
C) Güneşlenme süresi
D) Deniz suyu sıcaklığı

20. Aşağıdakilerden hangisi botanik turizmine konu olan doğal unsurdur?

- A) Travertenler
B) Mağaralar
C) Göller
D) Endemik bitkiler

(181) İNGİLİZCE – 1

1 - 20. sorularda boş bırakılan yere uygun gelen kelime ya da ifadeyi işaretleyiniz.

1.



There are beautiful flowers
----- the vase.

- A) of B) on C) at D) in

2. I will go to ----- United Kingdom next week.

- A) an B) a C) the D) that

3. A: ----- I open the window? It is very hot here.

B: Sure.

- A) Did B) May
C) Am D) Do

4. Murat is my best friend. He is in Germany and I miss ----- very much.

- A) his B) he
C) her D) him

5. Ali isn't an outgoing boy. He ----- spends time with his friends.

- A) never B) always
C) usually D) frequently

6. I was in my bed at 2 o'clock -----.

- A) next week B) last night
C) tomorrow D) at the moment

7. How ----- rice do you need to cook this meal?

- A) many B) long
C) much D) often

8. You ----- come to school on time. This is the rule.

- A) must B) can
C) will D) may

9. Overweight people ----- eat too much or they will gain more weight.

- A) shouldn't B) couldn't
C) doesn't D) won't

10. Arda and Mesut ----- at the airport with their wives yesterday.

- A) are B) were
C) will D) was

11. Kaan ----- speak to his girlfriend because she broke his heart.

- A) doesn't B) hasn't
C) didn't D) isn't

12. Oğuz ----- his grandmother when he is in Ankara.

- A) is visiting
B) had visited
C) was visiting
D) is going to visit

13. Many years ago, they ----- in a big castle but now they ----- in poverty.

- A) lived / were
B) live / used to be
C) used to live / are
D) used to live / were

1. OTURUM

14.



He is - - - - .

- A) reading a history book
- B) watering the flowers
- C) talking to his friend
- D) watching a movie

15. **A: Oh! I have a meeting in an hour.**

B: You - - - - be there on time if you hurry.

- A) must B) would
- C) should D) will

16. **A: It is very hot here.**

B: Don't worry! I'll - - - - on the air conditioner.

- A) turn B) buy
- C) get D) go

17. **A: - - - - Melis speak English?**

B: Yes, - - - - .

- A) Do / she does
- B) Does / she isn't
- C) Does / she does
- D) Do / she doesn't

18. **A: I need - - - - money.**

B: I'm sorry. I haven't got - - - - .

- A) some / some B) some / any
- C) any / any D) any / some

19. **A: What are they doing?**

B: - - - - .

- A) They are climbing
- B) They like swimming
- C) They will write a letter
- D) They have already finished it

20. **A: - - - - ?**

B: Sorry, I'm using it now.

- A) May I open the window
- B) What can I cook for you
- C) Are you planning to go with him
- D) Could you give me your dictionary

(181) ALMANCA – 1

1 - 20. sorularda boş bırakılan yere uygun gelen kelime ya da ifadeyi işaretleyiniz.

1. **A: - - - - gehst du?**

B: Zur Schule.


- A) Wo B) Wie
- C) Wohin D) Was

2. **A: Wie alt seid ihr?**

B: Wir - - - - 16 Jahre alt.

- A) sind B) ist
- C) bin D) sein

3.



A: Was macht Thomas?

B: Thomas - - - - Fernsehen.

- A) geht B) schaut
- C) trinkt D) isst

4. **A: - - - - die Schüler Fußball gespielt?**

B: Ja, sie - - - - gestern gespielt.

- A) Habt / hast B) Habe / haben
- C) Hat / haben D) Haben / haben

5. **A: Wie findest du deine neue Schule?**

B: - - - - ist gut.

- A) Er B) Sie C) Es D) Ich

6. **Der Zug ist um 10:00 Uhr - - - - .**

- A) geflogen B) kam
- C) abgefahren D) kommen

7. **A: Was sagt sie?**

B: Sie sagt, - - - - das Fahrrad ihr gehört.

- A) der B) denn
- C) dass D) weil

8. **Weil ihre Noten schlecht sind, lernt - - - - viel.**

- A) er B) sie C) es D) ihre

9. **Die Frau hat ein- - - - gelb- - - - Kleid an.**

- A) -- / -es B) -e / -e
- C) -en / -en D) -e / -en

10. **Er geht zur Schule, - - - - er krank ist.**

- A) so B) dass
- C) denn D) obwohl

11. **Das ist Frau Aslan und - - - - Tochter.**

- A) seine B) sein
- C) ihre D) ihr

12. **Wenn es regnet, nehme ich - - - - Regenschirm mit.**

- A) meinen B) ihre
- C) mich D) dich

13. **A: Hallo Mehmet! - - - - du mit mir ins Theater gehen?**

B: Ja, ich - - - - .

- A) Kann / könne
- B) Wollen / wollte
- C) Werde / kann
- D) Willst / will

14. **A: Passt dir das Kleid?**

B: Ja, - - - - passt mir gut.

- A) der B) es C) sie D) er

15. **A: - - - - wohnst du?**

B: Ich wohne in der Bahnhofstr. 10.

- A) Wer B) Wen
- C) Wem D) Wo

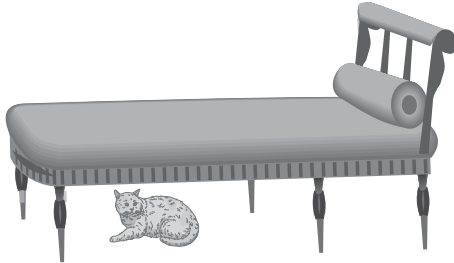
1. OTURUM

16. A: Möchtest du Tee - - - - Kaffee trinken?

B: Ich möchte Tee.

- A) oder B) dass
C) denn D) aber

17.



Die Katze ist - - - - dem Bett.

- A) neben B) unter
C) im D) auf

18. A: - - - - ?

B: Nein, danke. Ich habe keinen Hunger.

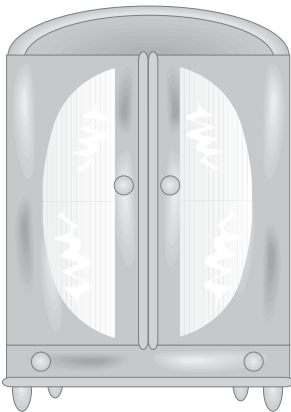
- A) Hast du Hunger?
B) Hatten Sie Hunger?
C) Habt ihr Hunger?
D) Haben wir Hunger?

19. A: - - - - du dieses Bild gemalt?

B: Nein, Ahmet - - - - es gemalt.

- A) Hat / hast B) Habe / hat
C) Hast / hat D) Hat / hatte

20.



Das ist ein - - - - .

- A) Stuhl B) Regal
C) Tisch D) Schrank

(181) FRANSIZCA – 1

1 - 16. sorularda boş bırakılan yere uygun gelen kelime ya da ifadeyi işaretleyiniz.

1. - - - - aimes le gâteau au chocolat?

- A) Tu B) Elles
C) Ils D) Elle

2. Hier matin, - - - - me suis réveillé à 7h 30.

- A) il B) tu C) je D) elle

3. Ayşegül - - - - à Berlin par avion avec la compagnie Turkish Airlines.

- A) est arrivé B) suis arrivé
C) es arrivé D) est arrivée

4. Dimanche dernier, nous - - - - dîné très tard.

- A) as B) avons
C) es D) avez

5. Les enfants - - - - sortis de la piscine.

- A) ont B) as C) est D) sont

6. Mete a passé - - - - à Bolu.

- A) le week-end B) la rue
C) le cinéma D) le théâtre

7. Il a neigé - - - - la semaine à Erzurum.

- A) toute B) personne
C) tout D) chaque

8. Elles ont - - - - professeurs que l'an dernier.

- A) l'autre B) le même
C) les mêmes D) certaine

9. A: Ahmet est divorcé?

B: Oui, il est - - - - .

- A) jeune B) veuve
C) fiancée D) divorcé

10. Si tu venais me voir, je(j') - - - - contente.

- A) suis B) serais
C) ai été D) étais

11. S'il fait chaud, ils - - - - à la plage.

- A) étaient allés B) étaient allées
C) iront D) iront

12. A: Çetin travaille en Russie?

B: Oui, il - - - - en Russie.

- A) ne pas travailler
B) ne travaille pas
C) travailler
D) travaille

13. A: Tu as déjà lu ce roman?

B: Oui, je - - - - ai lu le mois dernier.

- A) le (l') B) leur
C) les D) la (l')

14. A: Il aime les films d'aventures?

B: Oui, il - - - - aime beaucoup.

- A) la B) du C) les D) de la

15. A: Tu prends du lait?

B: Non, je ne prends pas - - - - lait.

- A) des B) de
C) du D) de la

16. Un piano sert à - - - - .

- A) faire de la musculation
B) faire de la peinture
C) faire de la randonnée
D) faire de la musique

17. (I) Il est vieux. (II) Il fait froid. (III) Il est gentil. (IV) Il a les yeux verts.

Cümleler sırasıyla okunduğunda anlam bütünlüğünü bozan cümleyi bulunuz.

- A) III B) II C) I D) IV

1. OTURUM

18 - 20. sorularda verilen resme göre doğru ifadenin bulunduğu seçeneği işaretleyiniz.

(244) İNGİLİZCE – 5

1 - 20. sorularda boş bırakılan yere uygun gelen kelime ya da ifadeyi işaretleyiniz.

18.



- A) Elle a les cheveux longs et elle porte des lunettes.
B) Il a de la barbe et il porte une casquette noire.
C) Elle a les cheveux frisés et elle porte un foulard.
D) Il a les lèvres minces et il porte une casquette.


19.



Il est ---- et il a ---- .

- A) chauve / une grosse barbe
B) musclé / de petites lunettes
C) blonde / de grandes dents
D) paresseuse / les cheveux courts

20.



Elle a le visage ---- .

- A) ronde B) carrée
C) pointue D) ovale

1. I haven't been to Madrid ---- a long time.

- A) after B) since
C) then D) for

2. Elif has been very happy ---- her son came back home.

- A) since B) after
C) when D) then

3. The manager will fly to Barcelona ---- .

- A) at the moment
B) last night
C) this week
D) yesterday

4. ---- I was in the garden, the dog was barking.

- A) Then B) When
C) Since D) While

5. He solved the problem more easily ---- me.

- A) than B) then
C) from D) when

6. He did his homework ---- than Ahmet.

- A) best B) well
C) good D) better

7. People read more ---- than they did in the past.

- A) many B) much
C) often D) farther

8. Gold is ---- expensive than silver.

- A) more B) many
C) much D) most

9. Non-smokers are ---- than smokers.

- A) hotter B) earlier
C) heavier D) healthier

10. Jonathan can speak French more ---- than Martin.

- A) dangerously
B) fluently
C) happily
D) early

11. Let's have a party, ---- ?

- A) will we B) will you
C) shall we D) shall you

12. Don't go out at night, ---- ?

- A) do you B) will you
C) have you D) were you

13. He has bought a new house, ---- ?

- A) won't he B) hasn't he
C) wasn't he D) doesn't he

14. The poor man hasn't ---- anything for two days.

- A) eat B) ate
C) eaten D) eating

15. There ---- a big park for kids in the town but now there isn't.

- A) used to be B) has to be
C) will be D) may be

16. She ---- go to the party with them last night.

- A) can't B) won't
C) didn't D) doesn't

17. The students ---- a very difficult exam and most of them failed.

- A) visited B) called
C) drank D) had

1. OTURUM

18. How ---- you ---- to the school yesterday?

- A) did / go B) will / go
C) are / going D) was / going

19. A: I have to finish this work.
B: Don't worry! I ---- you.

- A) had helped B) will help
C) could help D) was helping

20. Sedat was fixing the car in the garage while ----.

- A) they had an accident
B) you often go to museum
C) I was watering the flowers
D) he will go abroad tomorrow

(244) ALMANCA – 5

1 - 17. sorularda boş bırakılan yere uygun gelen kelime ya da ifadeyi işaretleyiniz.

1. Winter, ----, Sommer

- A) Monat B) Herbst
C) Woche D) Frühling

2. ---- Montag fängt die Schule an.

- A) Am B) Um C) Im D) Zum

3. Ein Monat hat ---- Wochen.

- A) sieben B) vier
C) acht D) dreißig

4. dick, ----, am dicksten.

- A) dick B) dicke
C) dicker D) dickste

5. Wir sind ---- Jahre 2015.

- A) im B) am C) um D) zum

6. ---- im Sommer in die Ferien fahren zu können, spare ich Geld.

- A) Als B) Um
C) Damit D) Zu


7. Man muss ---- warten, bis ein Baum wächst.

- A) ungefähr B) weil
C) jahrelang D) aber

8. Wir haben heute keine Schule, ---- es schneit.

- A) damit B) wie
C) aber D) weil

9.



A: Wie spät ist es?
B: Es ist ----

- A) Viertel nach vier
B) Halb vier
C) Viertel vor vier
D) Vier Uhr

10. Hasan macht ---- seine Hausaufgaben. Er muss die Klasse wiederholen.

- A) weshalb B) damit
C) nie D) deshalb

11.



Wo ist der Fahrrad?
Der Fahrrad ist ---- den Autos.

- A) unter B) über
C) auf D) zwischen

12. A: ---- hat dir dein Vater zum Geburtstag ----?
B: Eine Katze.

- A) Wer / kaufen
B) Was / gekauft
C) Wen / kaufe
D) Wie / kaufen

13. Du ---- kein Eis im Winter essen.

- A) sollen B) soll
C) sollst D) sollte

14. Es schneit ---- zwei Tagen in Ankara.

- A) bis B) um C) sind D) seit

15. Wenn du gesund sein willst, ---- du Sport treiben.

- A) musst B) ist
C) soll D) sein

16. Konya ist groß. Ankara ist ----. Istanbul ist ----.

- A) groß / größte
B) größer / am größten
C) große / größer
D) am größten / groß

17. Was ---- du in den Ferien?

- A) mache B) machen
C) machte D) machst

18. "September, Oktober, November" hangi mevsimin aylarıdır?

- A) Herbst B) Winter
C) Frühling D) Sommer

19. Aşağıda karışık olarak verilen kelimelerle kurallı bir cümle oluşturunuz.

geregnet – in – hat – Es – viel –
1 2 3 4 5
Istanbul
6

- A) 1 - 2 - 3 - 4 - 5 - 6
B) 4 - 5 - 3 - 1 - 6 - 2
C) 4 - 3 - 5 - 2 - 6 - 1
D) 4 - 2 - 3 - 1 - 5 - 6

20.



Resimdeki kişinin yaptığı eyleme ne denir?

- A) fahren B) reiten
C) schwimmen D) fliegen

1. OTURUM

(244) FRANSIZCA – 5

1 - 16. sorularda boş bırakılan yere uygun gelen kelime ya da ifadeyi işaretleyiniz.

1. Êtes- ---- arrivés à temps à la gare?
A) elles B) vous
C) ils D) nous
2. ---- veux inviter mes amis français au dîner.
A) Elle B) Ils
C) Je D) Elles
3. Je te présente Paul et Sylvie ---- habitent à Toulouse.
A) ce qui B) que
C) ce que D) qui
4. C'est le village ---- elle a habité pendant des années.
A) où B) ce qui
C) que D) ce que
5. Je ne connais pas la jeune fille ---- tu cherches.
A) où B) que
C) qui D) donc
6. ---- il est fatigué, il écoute de la musique classique.
A) Quand B) Combien
C) Comment D) Pourquoi
7. Nous avons fait du camping à Ilgaz ---- les vacances d'été.
A) enfin B) il y a
C) pour D) pendant
8. Ils iront ---- ensemble pour faire du ski nautique.
A) au concert
B) à la bibliothèque
C) à la mer
D) au musée

9. ---- nous sommes allés au Japon.
A) Lundi prochain
B) Aujourd'hui
C) Le mois dernier
D) Demain
10. Titanic est un film ---- la fin est triste.
A) que B) qui
C) où D) dont
11. Mon fils apprend le français ---- des CD.
A) en écoutant B) en chantant
C) écouté D) chanté
12. Mme Fournier ---- dans le parc national, étudie la nature.
A) travaillant B) oubliant
C) pendant D) apportant
13. Pendant ses ---- en bateau sur le Bosphore, il lit des livres.
A) vêtements B) promenades
C) animaux D) romans
14. S'il neige demain, nous irons ---- à Palandöken.
A) faire du ski
B) se réveiller
C) faire du ski nautique
D) faire de la plongée
15. ----, nous avons fait la cuisine samedi dernier.
A) Ma femme
B) Mon frère et sa femme
C) Ma femme et moi
D) Mon frère
16. ---- Turquie, on roule ---- droite.
A) Aux / au B) Au / aux
C) À / en D) En / à

17 - 18. sorularda verilen cümlelerin Türkçe karşılığını işaretleyiniz.

17. Les enfants sortent de la piscine en riant ensemble.
A) Çocuklar havuzdan gülüşerek çıkıyorlar.
B) Çocuklar hep beraber suya balıklama atladılar.
C) Çocuklar havuzda balık gibi yüzüyorlar.
D) Çocuklar atlaya zıplaya havuza gidiyorlar.
18. Je prends du café en mangeant du gâteau.
A) Kahvemi hazırlarken pasta yedim.
B) Pasta yaparken kahve içtim.
C) Pastanın yanında kahve olsun isterim.
D) Pasta yerken kahve içerim.

19 - 20. sorularda verilen cümlelerin Fransızca karşılığını işaretleyiniz.

19. Sokakta şarkı söyleyen bir genç kız gördüm.
A) J'ai vu un beau garçon chantant dans la rue.
B) J'ai vu une jeune fille chantant dans la rue.
C) J'ai rencontré un jeune dansant dans la cour.
D) Je vois une jeune fille dansant dans la cour.
20. Pierre kahvaltısını yaparken telefonla konuşuyordu.
A) Pierre a répondu au téléphone en prenant son café.
B) Pierre parlait au téléphone en prenant son petit déjeuner.
C) Pierre parle toujours au téléphone en prenant le dîner.
D) Pierre a parlé au téléphone en prenant du lait.

1. OTURUM

(401) DİL VE ANLATIM – 1

1. Bundan bin yıl sonra bir bilim adamının Türklerle ilgili bir araştırma yapmakla görevlendirildiğini varsayalım. Türklerle ilgili hiçbir bilgisi, ilişkisi olmayan bu araştırmacı herhangi bir yoldan, önce dilimizi iyi öğrenme olanağı bulsa yalnızca Türkçenin söz varlığını inceleyerek ülkemizin 20. yüzyılda hangi koşullar içinde bulunduğunu, bizde hangi kavramların önem taşıdığını ve hangi uluslarla ilişki kurduğumuzu saptayabilir.

Bu parçada dille ilgili vurgulanan düşünce aşağıdakilerden hangisidir?

- A) Dil, gelişen canlı bir varlıktır.
B) Bir toplumun birçok özelliği o toplumun diline yansır.
C) Dil incelemeleri, çok zaman gerektiren bir uğraştır.
D) Dil, insanlar arasında iletişimi sağlayan en önemli araçtır.

2. Dildeki sözcükleri çıkış noktası bakımından inceleyen bilim dalı aşağıdakilerden hangisidir?

- A) Ses bilgisi
B) Biçim bilgisi
C) Cümle bilgisi
D) Köken bilgisi

3. Almanca, Arapça, Fransızca, Hintçe gibi diller yapısına göre aşağıdaki dil gruplarının hangisinde yer alır?

- A) Tek heceli
B) Baştan eklemeli
C) Sondan eklemeli
D) Çekimli

4. İlk yazılı eserimiz olan Göktürk Yazıtları, Türkçenin gelişim aşamalarının hangisinde verilmiştir?

- A) Altay Çağı
B) İlk Türkçe Çağı
C) Eski Türkçe Çağı
D) Orta Türkçe Çağı

5. Aşağıdakilerin hangisinde Ural-Altay dil ailesine giren diller bir arada verilmiştir?

- A) Çince – Farsça – Portekizce
B) Türkçe – Moğolca – Mançuca
C) Tibetçe – İspanyolca – Macarca
D) Türkçe – Rusça – Akatça

6. Aşağıdaki yargılardan hangisi **yanlıştır**?

- A) Dil, kültürün kuşaktan kuşağa aktarılmasını sağlar.
B) Dil, kültürün temel unsurudur.
C) Kültürdeki her türlü değişim dile yansır.
D) Dil ve kültürü birbirinden bağımsız olarak değerlendirmek gerekir.

7. Annesi Kemal'e : "Seninle gurur duyuyorum." dedi.

Bu cümlede aşağıdaki iletişim unsurlarından hangisi **yoktur?**

- A) Alıcı B) Dönüt
C) Kaynak D) İleti

8. Aşağıdaki cümlelerde altı çizili sözcüklerden hangisinin büyük ünlü uyumuna **uymama** nedeni diğerlerinden farklıdır?

- A) İki saattir seni burada bekliyorum.
B) Aksamki toplantıya yine geç kaldı.
C) Ateşin önünde durmuş, ısınmaya çalışıyordu.
D) Sizlere bakarken içim mutluluk doluyor.

9. Türkçenin ses özellikleri dikkate alındığında aşağıdaki sözcüklerden hangisinin Türkçe bir sözcük olduğu söylenir?

- A) Program B) Debriyaj
C) İçerik D) Billur

10. Son geceydi yatağımda

Karım ağlardı sağımda

Körpe yavru kucağımda

Kirpiğini örtüyordu.

I
II
III
IV

Yukarıdaki dizelerde numaralanmış sözcüklerin hangisinde ses olayı **yoktur?**

- A) I. B) II. C) III. D) IV.

11. Kesme işareti (') aşağıdaki cümlelerin hangisinde **yanlış** kullanılmıştır?"

- A) Anadolu'nun en ücra köşesinde bile internet var.
B) Bu yaz gidip Topkapı Sarayını gezeceğim mutlaka.
C) Türk Dil Kurumu'nun sitesinden dergiye abone oldum.
D) Geçen ay okuduğum Derviş ve Ölüm'ü çok beğendim.

12. Aşağıdaki cümlelerin hangisinde büyük harflerin yazımıyla ilgili bir **yanlışlık** yapılmıştır?

- A) 21 Mart 2014 cuma günü dünyaya gelmiş.
B) Ahmet Bey, sizi toplantı salonunda bekliyor.
C) Kızılay Meydanı renkli ışıklarla süslenmişti.
D) Tamir için bir İngiliz anahtarı şart.

13. Aşağıdaki cümlelerin hangisinde yazım yanlışı **yapılmamıştır**?

- A) Geçtiğimiz ay belediye otuz işçi alacağını ilan etti.
B) Yaptığınız herşeyin bir gün karşılığını alacaksınız.
C) Gerçekten odadaki bütün kitapları okudunuzmu?
D) Eve girdiğimde sürpriz bir doğum günü partisiyle karşılaştım.

14. Bakış açısı () seçilen objeye karşı yaklaşım biçimidir () içinde bulunduğumuz birikim kaynakları () böyle bir bakış açısına müsait midir ()

Bu parçada parantez () ile gösterilen yerlere sırasıyla aşağıdaki noktalama işaretlerinden hangileri getirilmelidir?

- A) (,) (.) (,) (?)
B) (;) (!) (,) (...)
C) (,) (.) (:) (!)
D) (:) (.) (,) (?)

15. Aşağıdaki cümlelerin hangisinin sonuna farklı bir noktalama işareti konmalıdır?

- A) Ne güzeldir, ne heyecan verir; hangi şey insanı mutlu eder
B) Bilmiyorum, bu kitabın neden başarısız olduğunu
C) Bu şehri seven, bu şehre sahip çıkacak var mı
D) Gökyüzü nasıl olur da farklı bir renk alır

1. OTURUM

(402) DİL VE ANLATIM – 2

16. Bir ülkenin sınırları içinde dilin bölgelere, şehirlere ve sınıflara göre değişen söyleyiş özelliğine verilen ad aşağıdakilerden hangisidir?

- A) Ağız B) Şive
C) Lehçe D) Yazı dili

17. Kaşgarlı Mahmut'un Türkçenin Arapça kadar zengin bir dil olduğunu ortaya koymak için yazdığı eser aşağıdakilerden hangisidir?

- A) Atabetü'l Hakayık
B) Kutadgu Bilig
C) Divan-ı Hikmet
D) Divanü Lügati't Türk

18. Ciğerlerden gelen havanın gırtlakta bulunan ses tellerinden geçtikten sonra ağız boşluğunun herhangi bir bölgesinde sese dönüşmesine - - - - denir.

Bu cümlede boş bırakılan yere aşağıdakilerden hangisi getirilmelidir?

- A) boğumlanma B) telaffuz
C) iletişim D) vurgu

19. Aşağıdakilerden hangisi yazım ve noktalama kurallarına uygun bir cümledir?

- A) Direktör: "İyi bir hasılat yapıp ramazanı İzmir'de geçirmek istiyorum." dedi.
B) Direktör: "İyi bir hasılat yapıp, ramazanı İzmir'de geçirmek istiyorum." dedi.
C) Direktör, iyi bir hasılat yapıp ramazanı İzmirde geçirmek istiyorum, dedi.
D) Direktör: "iyi bir hasılat yapıp Ramazan'ı İzmir'de geçirmek istiyorum" dedi.

20. Aşağıdaki cümlelerin hangisinde ünlü düşmesi yoktur?

- A) Bu, aklıma hiç gelmemişti.
B) Kütüğü yolun kenarına çekti.
C) Boksörün omzu çıkmış.
D) Resmî, karşı duvara asacakmış.

1. Bir aracın sürücüsü, yolda kendinden başka araç yokmuş gibi davranırsa trafik kazası olur. Bir kişi, konuşurken karşısındakini nasıl etkileyeceğini düşünmezse trafikte olduğu gibi "iletişim kazaları" ortaya çıkar. İletişim kazaları sonunda küsenler, ayrılanlar, gücenenler "yaralıları", kendi içine kapanıp yalnızlığa gömülenlerse "ölüleri" oluşturur.(- - - -)

Bu parça düşüncenin akışına göre aşağıdakilerden hangisiyle tamamlanamaz?

- A) Bunun için de iletişimde empati yapmak çok önemlidir.
B) Bunu düşünerek başkalarının hayatına karışmamalıyız.
C) Bunu göz önünde bulundurarak ağızımızdan çıkacak her sözünü iyi tartmalıyız.
D) Bu yüzden "Boğaz dokuz boğumdur, sekizini yut birini söyle." atasözünü doğrultusunda hareket etmeliyiz.

2. Tartışmada zafer, mağlup olanındır. Yenilmek zenginleşmektir. Tartışma hakikati birlikte aramaktır. Hakikat bin bir cepheli, bin bir görünüşlü. Karşınızdaki, görmediğinizi gösterecek size; sizden farklı düşündüğü ölçüde yaratıcı ve öğreticidir.

Bu parçadan aşağıdakilerden hangisi çıkarılamaz?

- A) Tartışmanın kişiye bir şeyler kattığı
B) Gerçeğin kişilerce farklı algılandığı
C) Tartışmayı kaybeden kişilerin yeni şeyler öğrendiği
D) Tartışmada karşıt görüşlü olanların birbirini kırdığı

3. Eski kütüphaneler, asırların en büyük beyinlerinin ağırlığını çekemez olmuş, ortalarından bel vermiştir.

Bu cümleyle anlatılmak istenen aşağıdakilerden hangisidir?

- A) Kütüphanelerin alamayacağı kadar çok ve önemli eserler verildiği
B) Bir kütüphanedeki bütün kitapları okumanın çok zor olduğu
C) Eski kütüphanelerin çok sayıda düşünür yetiştirdiği
D) Eski kütüphanelerin asırlara meydan okuduğu

4. Küçük salonun fes renginde kalın ve ağır perdeli geniş çevresinden dışarıya muhteşem ve parlak bir sulu boya levhası gibi görünüyordu. Saf ve mavi bir sema. Çiçekli ağaçlar... Cıvıldağan kuşlar... Uyur gibi sessiz duran deniz...

Bu parçada kullanılan anlatım türü aşağıdakilerden hangisidir?

- A) Açıklama B) Betimleme
C) Öyküleme D) Tartışma

5. Aşağıdaki cümlelerden hangisi anlamca olumludur?

- A) İnternetin yaygınlaşmasıyla kitap okunmaz oldu.
B) Ne dergi ne de gazete giriyor evimize.
C) İnternet evimizin o tatlı sohbetlerini bırakmadı.
D) İnterneti, gerçekten, faydalı kullananlar da yok değil.

6. (I) Anlatımda sözcük fazlalıklarına çok dikkat etmelisiniz. (II) Melih Cevdet Anday, bir şiiri sözcükleri tek tek örterek değerlendirmiş. (III) Herhangi bir sözcük olmadan da dize varlığını sürdürebiliyorsa o sözcüğü gözü kapalı silip atarmış. (IV) Mehmet Fuat aynı kaygıyı her tümcemiz için taşımamızı önerir.

Bu parçadaki numaralı cümlelerin hangisinde koşul söz konusudur?

- A) I. B) II. C) III. D) IV.

7. Sana da çok güveniyor, bu yüzden destekleyeceğimi bilmeni istiyorum.

Bu cümledeki anlatım bozukluğu aşağıdaki değişikliklerin hangisiyle giderilebilir?

- A) "güveniyor" sözcüğü yerine "inanıyorum" getirilerek
B) "bu yüzden" cümleden atılarak
C) "destekleyeceğimi" sözcüğü yerine "destek vereceğimi" getirilerek
D) "bu yüzden" sözcüğünden sonra "seni" getirilerek

1. OTURUM

8. Aşağıdaki cümlelerin hangisinin öğelerini ayırmada bir yanlıklık yapılmıştır?

- A) Edebiyat dergileri / eski güçlerini ve etkinliklerini / yitirdi.
- B) Bütün gazeteleri, / dergileri cilt cilt / okuyorum.
- C) O tozlu rafların arasında / çok / vakit geçirdim.
- D) Roman okumanın tadını / başka bir şeyden / alamıyorum.

9. Aşağıdaki cümlelerin hangisinde terim anlamlı sözcük kullanılmıştır?

- A) Bu dönemde şiirde zengin uyak kullanılmıştır.
- B) Her geçen gün daha düzenli çalışıyordu.
- C) Evin perdeleri eşyalarla pek ahenkli değildi.
- D) Davranışlarında ölçülü olmaya dikkat ediyordu.

10. Aşağıdaki dizelerin hangisinde mecazlı anlatım söz konusu değildir?

- A) Açmış aç ağızlarını cılız ağaçlar Dişlerimi diken diken etimde dolaşan
- B) Ve neden sonra zaman Bir iskele olup sıyrıldı takvim yapraklarından
- C) Gönümde güneşler ve aylar battı Yıldızlar dertlerime yeni dertler kattı
- D) Bursa'da bir eski cami avlusu Küçük şadırvanda şakırdayan su

11. Aşağıdaki cümlelerde yer alan ikilemelerden hangisi oluşum bakımından diğerlerinden farklıdır?

- A) Adam bu işlerden doğru dürüst anlamıyordu.
- B) Burada mutlu mesut yaşıyordu adamcağız.
- C) Toplantıda bu konulara az çok değinmişti.
- D) Daima kılık kıyafetimize dikkat etmeliyiz.

12. I. Yosunlu, denizli gece
II. Bir yeşil kıyıya veda
III. Kimi ta yanımda deniz
IV. Kimi bir uzak kıyıda

Yukarıdaki numaralanmış dize-lerin hangisinde sıfat tamlaması kullanılmamıştır?

- A) I. B) II. C) III. D) IV.

13. Aşağıdakilerin hangisinde "açmak" sözcüğü karşısında verilen anlama uygun kullanılmamıştır?

- A) Bir kuruluşu işler duruma getirmek: Hastaneyi açmak, ilçeye çok faydalı oldu.
- B) Rengin koyuluğunu azaltmak: Bu çocuğun gözünü biraz açmak lazım.
- C) Birbirinden uzaklaştırmak: Masaların arasını açmak, servis yapmayı kolaylaştırır.
- D) Ayırmak, tahsis etmek: Üst kattaki odayı sizin için açtık.

14. Aşağıdaki cümlelerde altı çizili sözcüklerden hangisinin kökü diğerlerinden farklıdır?

- A) Batık gemide hazine arıyorlarmış.
- B) Çevremize karşı duyarlı olmalıyız.
- C) Hazırlık yapmadan yola çıkmazdı.
- D) Geleceğe dair umut taşımalyız.

15. Kendinizi duygu ve heyecan

I

yönünden olgun bir insan olarak

II

III

görmeniz öz güveninizi gösterir.

IV

Bu cümledeki altı çizili sözcüklerden hangisi yapım eki almamıştır?

- A) I. B) II. C) III. D) IV.

16. Aşağıdaki cümlelerdeki altı çizili sözcüklerden hangisi yapıca farklıdır?

- A) Bu kitabı detaylı bir şekilde değerlendirmelisin.
- B) Bu öyküyü nasıl yazdığını imza gününde anlatacakmış.
- C) Bu küçük kasabada yapabileceğim bir şey kalmadı.
- D) Yıllar sonra aldığı okuma kararını canıgönülden destekliyoruz.

17. Aşağıdakilerin hangisi kurallı bir isim cümlesidir?

- A) Aydının sorumluluğu, adının ayrılmaz bir parçasıdır.
- B) Okumanın tadına varan kişi bir daha okumayı bırakamaz.
- C) Şiiri özümsemek için üzerinde kafa yormalıyız.
- D) Şiirdir bizi farklı diyarlara götüren, bize farklı duygular yaşatan.

18. Ara sıra sevimli çeneleriyle yeşil otları didikliyor, ihtiyar kadının parmağını kemiriyordu.

Aşağıdakilerden hangisi yapıca bu cümleyle özdeştir?

- A) Tavşanların gözü korku ve hayret ile doluydu.
- B) Tramvay, yokuşu homurdanarak çıkmıştı.
- C) Musiki ustası arkadaşımız konuşuyor, bizi aydınlatıyordu.
- D) Okuduğu metindeki atasözü ve deyimleri tespit etmişti.

19. Son zamanlarda çoğalan internet yazışmaları insanın kendini saklama güdüsünden kuvvet alıyor.

Bu cümlelerin öznesi aşağıdakilerden hangisidir?

- A) kuvvet
- B) internet yazışmaları
- C) çoğalan internet yazışmaları
- D) Son zamanlarda çoğalan internet yazışmaları

20. Aşağıdaki cümlelerin hangisinde birleşik zamanlı bir fiil kullanılmıştır?

- A) Yurt dışında kaldığım iki yıllık sürede İngilizcem i iyice geliştirdim.
- B) Yağmurlu bir günde sığındığım bu تنها han çok hoşuma gitmişti.
- C) O akşam orada kimseyi görmedim.
- D) O günden sonra yalnızlığımı kitaplarımla paylaşıyorum.

1. OTURUM

(407) DİL VE ANLATIM – 7

1. Aşağıdakilerin hangisinde sanatsal ve öğretici metinlerin karşılaştırılması yanlış yapılmıştır?

- A) Sanatsal metinlerde okuyucuya estetik zevk, öğretici metinlerde ise bilgi verme amacı vardır.
- B) Sanatsal metinler daha çok kurmaca iken öğretici metinlerde gerçeklik ön plandadır.
- C) Sanatsal metinlerde dil göndergesel işlevde, öğretici metinlerde ise şiirsel işlevde kullanılır.
- D) Sanatsal metinlerde üslup kaygısı varken öğretici metinlerde böyle bir kaygı yoktur.

2. Anlatımda gereksiz ifadeler yer verilmemesine “duruluk” denir.

Aşağıdaki cümlelerin hangisinde duruluk ilkesine uyulmamıştır?

- A) Nakil ve aktarma işinden sonra ücretinizi alabilirsiniz.
- B) Saygı ve hoşgörü ile yaklaşırdı kendinden küçüklere.
- C) Romanı tek solukta, büyük bir heyecanla okudum.
- D) Çevremize duyarlı olduğumuzda toplumdaki birçok sorun kendiliğinden çözülür.

3. Sanat metinlerinin farklı yorumlara açık olmasının asıl sebebi aşağıdakilerden hangisidir?

- A) Çok uzun olmaları
- B) Şiir şeklinde olmaları
- C) Göndergenin dolaylı biçimde verilmesi
- D) Birçok bilimden yararlanması

4. Aşağıdakilerden hangisi fablın genel özellikleri arasında sayılamaz?

- A) Soyut kavramları, somut olaylarla anlatır.
- B) İnsanların kusurlu yönlerine dikkat çeker.
- C) Verilmek istenen ders açıkça dile getirilir.
- D) Daha çok açıklayıcı ve tartışmacı anlatım kullanılır.

5. Aşağıdaki sanatçılardan hangisi La Fontaine'den fabl çevirileri yapmamıştır?

- A) Şinasi
- B) Orhan Veli Kanık
- C) Yahya Kemal Beyatlı
- D) Sabahattin Eyuboğlu

6. Aşağıdaki cümlelerin hangisinde anlatım, kahraman anlatıcı bakış açısıyla yapılmamıştır?

- A) Yaşadığı yerde sıkılan Mehmet Ağa, şehre gidip oraları görmek istemiş.
- B) Ömer'in gösterdiği kapının önüne geldiğimizde ışıklar birden söndü.
- C) Telaşla arabadan indim ama iki arkadaşımın hiç acelesi yok gibiydi.
- D) Sabah söylediği yerde elimle koymuş gibi buldum onu.

7. Aşağıdakilerden hangisi anlatmaya bağlı türlerden biridir?

- A) Şiir
- B) Hikâye
- C) Tiyatro
- D) Pantomim

8. Bir fare bir devenin yularını eline alıp kibirlenerek “Durma, yürü!” dedi. Deve uysal tabiatı üzere yürümeye başladı. Fare de kendini pehlivan sandı. Farenin bu düşüncesi deveye aksettii: “Sabret, şimdi ne olduğunu görürsün.” dedi.

Bu parça, metin türü olarak aşağıdakilerden hangisine örnektir?

- A) Fabl
- B) Hikâye
- C) Roman
- D) Destan

9. Aşağıdakilerden hangisi halk hikâyesi ve modern hikâyenin ortak özelliğidir?

- A) Anonim olmaları
- B) Manzum ve mensur bir yapıya sahip olmaları
- C) Batı edebiyatından alınmış türler olmaları
- D) Olaya dayalı metin türü olmaları

10. Her sanatçı kendinden önceki sanatçılardan, her dönem kendinden önceki dönemlerden etkilenir. İlk ürünlerde hep bir öncekine öykünme vardır.

Bu parçada sanat metinleri ile ilgili yapılan açıklama, aşağıdaki kavramlardan hangisiyle ifade edilir?

- A) Tema
- B) Gelenek
- C) Gerçeklik
- D) Zihniyet

11. Akşam taliminden sonra hava biraz rüzgârlı idi. Ben arkadaşları bıraktım. Selanikli Akil'i buldum. Üç gündür tanıyordum bu kırmızı saçlı, çalışkan, faal çocuğu. Fakat bu akşam parlak ve faal gözleri sanki biraz gölgelenmiş, daha ziyade koyulaşmıştı.

Bu parçada anlatmaya bağlı metinlerin yapı özelliklerinden hangisiyle ilgili bir ayrıntı yoktur?

- A) Kişi
- B) Olay
- C) Zaman
- D) Mekân

12. I. Küçük Ağa – Psikolojik roman
II. Devlet Ana – Tarihi roman
III. Hasan Mellah – Macera romanı
IV. Dokuzuncu Hariciye Koşuşu – Otobiyografik roman

Yukarıdaki eşleştirmelerden hangisi yanlıştır?

- A) I.
- B) II.
- C) III.
- D) IV.

13. Görmek ister isen cihanda rahat Çalış durma kazan, etme sefahat Damlayı damlayı göl olur elbet Derd ü belâ bile azdan az olur

Altı çizili dizede aşağıdaki söz sanatlarından hangisi vardır?

- A) Teşhis
- B) Kinaye
- C) Hüsniâtîl
- D) Tecahül arif

1. OTURUM

14. Masalların daima mutlu sonla bitmesinin sebebi aşağıdakilerden hangisi olamaz?

- A) Çocuklara erdemli olma bilinci kazandırmak
- B) Kötülerin cezasız kalmayacağını öğretmek
- C) Farklı toplumların ortak değerlere sahip olduklarını ortaya koymak
- D) Zorluk ve sıkıntı çekmeden başarıya ulaşmanın mümkün olmadığını göstermek

15. Masal öyle gür kaynaktır ki bu kaynaktan birçok bilim yararlanır. Ulusun eski karakterleri, eski ülküleri masallarda gizlidir. Halk uygarlığının eski izlerini, masallardan çıkarma olanağı vardır. Nihayet hikâyeci, romancı, şair oyun yazarı, hatta senaryo yazarı masallardan, çok ilginç eserler meydana getirebilir.

Bu parçadan masalla ilgili olarak aşağıdakilerden hangisi çıkarılamaz?

- A) Tüm ulusları birleştirici bir özelliğe sahip olduğu
- B) Milletlerin tarihine ışık tutan eserler arasında olduğu
- C) Birçok sanatçı için birer esin kaynağı olduğu
- D) Ait olduğu ulusun düşünce yapısından izler taşıdığı

16. Sait Faik Abasıyanık'ın "Sinağrit Baba" öyküsü hangi öykü türüne örnektir?

- A) Halk
- B) Olay
- C) Durum
- D) Ben merkezli

17. Edebiyatımızda masalı gerçek anlamda ilk defa "Celalettin Harzemşah" adlı eserinin ön sözünde değerlendiren yazar, masalı tamamen hayali olaylardan meydana gelen bir anlatım türü olarak değerlendirir. Ayrıca masalların ahlaki, eğitici ve terbiye edici özellikleri olduğunu da belirtir.

Bu parçada söz edilen yazar aşağıdakilerden hangisidir?

- A) Şeyhi
- B) Şinasi
- C) Namık Kemal
- D) Eflatun Cem Güney

18. I. Akşamleyin savaşın bitmesi ve Deli Mehmet'in defnedilmesi
II. Kuru Kad'nın, Deli Mehmet'in elinde başıyla savaşmasını görmesi
III. Elçinin kaledekilere teslim olmalarını teklif etmesi ve kaledekilerin savaşmaya karar vermesi
IV. Savaşmak için Cuma namazını kılmayı beklemeleri ve savaşın başlaması

"Başını Vermeyen Şehit" adlı hikâyenin karışık olarak verilen olay örgüsünün doğru sıralaması aşağıdakilerden hangisidir?

- A) I – II – III – IV
- B) III – IV – II – I
- C) III – I – IV – II
- D) IV – III – II – I

19. Aşağıdaki eser – sanatçı eşleştirmelerinden hangisi yanlıştır?

- A) Kıssadan Hisse – Ahmet Mithat Efendi
- B) Mendil Altında – Sabahattin Ali
- C) Küçük Şeyler – Sami Paşazade Sezai
- D) Gurbet Hikâyeleri – Refik Halit Karay

20. Aşağıdakilerden hangisi komedinin çeşitlerinden değildir?

- A) Töre
- B) Yergi
- C) Karakter
- D) Absürt

(408) DİL VE ANLATIM – 8

1. Forum ile panel arasındaki temel fark aşağıdakilerden hangisidir?

- A) Dinleyicilerin de tartışmaya katılması
- B) Sosyal bir sorunun geniş kitleler önünde tartışılması
- C) Bir başkanın yönetiminde gerçekleştirilmesi
- D) Dilin göndergesel işlevde kullanılması

2. Aşağıdakilerden hangisi münazaranın öğrencilere kazandırdıklarından biri değildir?

- A) Fikirlere karşı saygılı olmayı öğretir.
- B) Toplum önünde soğukkanlı konuşma alışkanlığı kazandırır.
- C) Doğru düşünme alışkanlığı kazandırır.
- D) Doğaya karşı saygılı olmayı öğretir.

3. Aşağıdakilerden hangisi münazara başkanının görevlerinden biri değildir?

- A) Tartışmanın konu dışına çıkmasını önlemek
- B) Belirtilen yöntem gereğince ortaya çıkan düşünceleri eleştirmek
- C) Tartışmanın gereksiz yere uzamasını ve kişiselleşmesini engellemek
- D) Tartışmacıların, düşüncelerini rahatlıkla söyleyebilecekleri bir ortam hazırlamak

4. Sorunlara çözüm aranırken birbirine karşıt görüşlerin ortaya konulup karşıt düşüncelerin savunulmasına - - - - denir.

Bu cümlede boş bırakılan yere aşağıdakilerden hangisi getirilmelidir?

- A) münazara
- B) forum
- C) sempozyum
- D) konferans

1. OTURUM

5. Aşağıdakilerden hangisi sempozyum bildirisinin bölümlerinden değildir?

- A) Giriş B) Deney
C) Bulgular D) Sonuç

6. “Çocuğun eğitiminde aile mi etkilidir, okul mu etkilidir?” konusunun, aşağıdaki sözlü anlatım türlerinden hangisiyle tartışılması en uygundur?

- A) Sempozyum
B) Forum
C) Münazara
D) Panel

7.

	Konferans	Nutuk
I	Amaç, topluluğu bilgilendirmektir.	Amaç, dinleyicileri coşturmaktır.
II	Dil, alıcıyı harekete geçirme işlevinde kullanılır.	Dil, daha çok göndergesel işlevde kullanılır.
III	Açıklayıcı, öğretici, kanıtlayıcı ve tartışmacı anlatım türleri kullanılır.	Emredici anlatım kullanılır.
IV	Genellikle bilim, sanat ve ekonomi konularında düzenlenir.	Toplumu ilgilendiren her konuda düzenlenir.

Bu tablodaki konferans ve nutuk karşılaştırılmasının hangisi yanlıştır?

- A) I. B) II. C) III. D) IV.

8. Aşağıdakilerden hangisi konferansın özelliklerinden biri değildir?

- A) Konu dinleyicilerin ilgisini çekecek nitelikte olmalıdır.
B) Bir alan hakkında bilgi vermek üzere düzenlenir.
C) Alanında yetkin kişilerce verilmesi gerekir.
D) Daima başkasına ait düşünceler dile getirilir.

9. Bir kitabın veya derginin kişi, konu, yer adı vb. bakımından içindekileri yer numarasıyla belirten ve eserin arkasında yer alan alfabetik listeye verilen ad aşağıdakilerden hangisidir?

- A) Bibliyografya
B) Dokümantasyon
C) İndeks
D) Dipnot

10. Aşağıdakilerin hangisi açık oturumun özelliklerinden değildir?

- A) Konu önceden tespit edilir.
B) Tartışılacak konu, geniş halk kitlelerini ilgilendirmelidir.
C) Açık oturum sadece radyo ve televizyonda yapılır.
D) Amaç bir sonuca varmak değil konuya açıklık getirmektir.

11. Sempozyum başkanı için aşağıda verilen bilgilerden hangisi yanlıştır?

- A) Başlangıçta konuyu ve katılımcıları tanıtmalıdır.
B) Oturumun başarılı bir şekilde tamamlanmasından sorumludur.
C) Oturum başlamadan sunum salonunda konuşmacıların hazır bulunmasını sağlar.
D) Konuşmacılar konuşmalarını bitirdikten sonra konuyu dinleyicilerin tartışmasına açmalıdır.

12. Aşağıdakilerden hangisini münazara için söylemek yanlış olur?

- A) Düşünceler açık, anlaşılır bir dille ifade edilmelidir.
B) Gerektiğinde konunun yönü değiştirilmelidir.
C) Sağlam fikirlere önem verilir.
D) Tekrara düşmemek gerekir.

13. Aşağıdakilerden hangisi bilimsel yazıların bölümlerinden değildir?

- A) Başlık
B) Özet
C) Paragraf
D) Sonuç ve tartışma

14. Aşağıdakilerden hangisi bilimsel yazılarla ilgili terimlerden değildir?

- A) Ara söz B) Dipnot
C) İndeks D) Kaynakça

15. İbrahim Şinasi ve Agah Efendi tarafından çıkarılan ilk özel gazetemiz aşağıdakilerden hangisidir?

- A) Tercüman-ı Ahval
B) Takvim-i Vakayı
C) Hürriyet
D) Sabah

16. Aşağıdakilerden hangisi makalenin özelliklerinden değildir?

- A) Öznellik ağır basar.
B) Bilimsel nitelik taşır.
C) Süslü anlatımlara yer verilmez.
D) Konu sınırlandırması yoktur.

17. Aşağıdakilerden hangisi bilimsel yazı olarak değerlendirilebilir?

- A) Hikâye özetleri
B) Roman özetleri
C) Fabl özetleri
D) Toplantı özetleri

18. Aşağıdaki dipnot örneklerinden hangisinin yazımı doğrudur?

- A) İstanbul, 2000, Doğan Cüceloğlu, Yeniden İnsan İnsana, Remzi Kitabevi, 23. Baskı.
B) Doğan Cüceloğlu, Yeniden İnsan İnsana, Remzi Kitabevi, 23. Baskı, İstanbul, 2000.
C) Remzi Kitabevi, Doğan Cüceloğlu, Yeniden İnsan İnsana, 23. Baskı, İstanbul, 2000.
D) İstanbul 2000, Remzi Kitabevi, 23. Baskı, Doğan Cüceloğlu, Yeniden İnsan İnsana, İstanbul, 2000.

1. OTURUM

19. Konferansa iyi hazırlanmalı, telaffuz ve söyleyiş hatalarımızı bir an önce gidermeliyiz.

Bu cümlelerin açık bir anlatıma sahip olması için aşağıdakilerden hangisi yapılmalıdır?

- A) "telaffuz ve" sözcükleri cümleden atılmalı.
- B) "hazırlanmalı" yerine "hazırlanmalıyız" kullanılmalı.
- C) "bir an önce" sözü cümleden atılmalı.
- D) "hatalarımızı" yerine "sorunlarımız" sözcüğü kullanılmalı

20. Aşağıdaki toplantı türlerinden hangisi diğerlerine göre daha bilimseldir?

- A) Forum
- B) Konferans
- C) Sempozyum
- D) Açık oturum

(414) TÜRK EDEBİYATI – 4

1. Eserin tamamı 6645 beyitten oluşmuştur. Her beyit kendi arasında kafiyelidir. Aruzla yazılan ilk eserdir. Öğretici bir eser olduğu için süslü ve sanatlı bir dille yazılmamıştır. Türk edebiyatında mesnevi nazım şekliyle yazılmış ilk eserdir.

Bu parçada sözü edilen eser aşağıdakilerden hangisidir?

- A) Kutadgu Bilig
- B) Atabetü'l Hakayık
- C) Divanü Lügati't Türk
- D) Divan-ı Hikmet

2. Aşağıdakilerin hangisinde Divanü Lügati't Türk ile ilgili **yanlış** bilgi verilmiştir?

- A) Türk dilinin ilk sözlüğüdür.
- B) Araplara Türkçe öğretmek amacıyla yazılmıştır.
- C) Bilimsel bir tarih kitabı özelliği taşır.
- D) Kaşgarlı Mahmut tarafından yazılmıştır.

3. İslami Dönem'in ilk ürünleriyle ilgili aşağıdakilerden hangisi **söylenemez?**

- A) Doğu Türkçesiyle (Hakaniye lehçesi) yazılmıştır.
- B) Öğretici nitelikleri ağır basmaktadır.
- C) Anonim eserlerin derlenmesiyle oluşmuştur.
- D) Şiirlerde hem aruz hem de hece ölçüsü kullanılmıştır.

4. Aşağıdaki sanatçı – eser eşleştirmelerinin hangisi **yanlıştır?**

- A) Yusuf Has Hacı - Kutadgu Bilig
- B) Edip Ahmet Yüknekî - Atabetü'l Hakayık
- C) Yunus Emre - Divan
- D) Mevlânâ - Divan-ı Hikmet

5. Kani mülke benim diyen Köşk ve saray beğenmeyen Şimdi bir evde yatarlar Taşlar olmuş üstünleri

Bu şiirin türü aşağıdakilerden hangisidir?

- A) İlahi
- B) Mesnevi
- C) Destan
- D) Gazel

6. Birçok eserinde çağının sosyal gelişmeleri üzerinde durduğu hâlde, gazellerinde güzellik duygusunu işlemiştir. Gazellerini edebî sanatlarla süsleyen şair, renkli bir anlatıma ulaşmıştır. Kendisinden sonra gelen birçok kişiyi etkileyen sanatçının İskendername, Cemşid ü Hurşit mesnevileri ile Divan'ı vardır.

Bu parçada tanıtılan sanatçı aşağıdakilerden hangisidir?

- A) Âşık Paşa
- B) Ahmedî
- C) Süleyman Çelebi
- D) Fuzûlî

7. Dede Korkut Hikâyeleri ile ilgili aşağıdakilerden hangisi **söylenemez?**

- A) Oğuz Türklerinin sosyal hayatları, gelenek ve görenekleri hakkında bilgi verir.
- B) Oğuzların kendi içlerinde ve düşmanlarıyla yaptıkları savaşlar anlatılır.
- C) Hikâyelerin yazarı Dede Korkut'tur.
- D) Nesir şeklinde yazılan eserde nazım bölümleri de vardır.

8. Aşağıdaki eserlerden hangisi mesnevi türünde **değildir?**

- A) Hüsn ü Aşk
- B) Mecalisü'n Nefais
- C) Leyla ve Mecnun
- D) Vesiletü'n Necât

9. Mutasavvıf, şair olarak anılan sanatçı, bütün insanlığı kucaklayarak birliği, hoşgörüyü ve iyiliği öğütler. Tasavvuf, Allah, aşk ve dünya hakkındaki görüşlerini meşhur eseri Mesnevi'de ele alır.

Bu parçada tanıtılan sanatçı aşağıdakilerden hangisidir?

- A) Mevlânâ
- B) Nedîm
- C) Nâbi
- D) Şeyh Gâlip

10. Aşağıdakilerden hangisi divan edebiyatının özelliklerinden biri **değildir?**

- A) Büyük ölçüde Arap ve Fars edebiyatının etkisinde kalmıştır.
- B) Şairler söz sanatlarına çokça yer vermişlerdir.
- C) Daha çok zengin kafiye tercih edilmiştir.
- D) Koşma, semai gibi nazım şekilleri kullanılmıştır.

11. Divan edebiyatında kaside ve hicivleriyle öne çıkan sanatçı aşağıdakilerden hangisidir?

- A) Nedîm
- B) Nefî
- C) Fuzûlî
- D) Bâkî

12. Aşağıdakilerin hangisi divan edebiyatının süslü nesir sanatçılarından biri **değildir?**

- A) Veysi
- B) Evliya Çelebi
- C) Âşık Çelebi
- D) Fatin

13. Gazelin ilk beytine matla, son beytine makta denir. Gazelde tek bir konu işleniyorsa beytül gazel, bütün beyitler aynı güzellikte ise yek avaz gazel denir.

Bu metindeki altı çizili kısımların hangisi yanlış açıklanmıştır?

- A) I.
- B) II.
- C) III.
- D) IV.

1. OTURUM

14. Aşağıdakilerden hangisi divan edebiyatında beyitle yazılan nazım şekillerinden biri değildir?

- A) Gazel B) Tuyuğ
C) Kaside D) Mesnevi

15. Aşağıdakilerin hangisinde bilgi yanlışı vardır?

- A) Girizgâh: Kasidenin ilk beytine verilen addır.
B) Medhiye: Bu bölümde kasidenin sunulduğu kişi övülür.
C) Fahriye: Şairin kasidede kendini övdüğü bölümdür.
D) Tegazzül: Kasidenin içinde geçen gazel bölümüdür.

16. Bestelenmek üzere yazılan ve dört dizelik bentlerle oluşan nazım biçimidir. Bu nazım şekli Türk şairlerce geliştirilmiştir. Bestelenmesi düşünüldüğü için müzik usullerine uyan aruz kalıplarıyla yazılır. Genellikle aşk, sevgili ve eğlence temaları işlenir.

Bu parçada anlatılan nazım şekli aşağıdakilerden hangisidir?

- A) Türkü B) Murabba
C) Destan D) Şarkı

17. Aşağıdakilerden hangisi halk şiirinde şairlere verilen isimlerden biri değildir?

- A) Ozan B) Âşık
C) Yır D) Baksı

18. Aşağıdakilerden hangisi anonim halk şiirinin özelliklerinden biri değildir?

- A) Nazım birimi dördlüktür.
B) Manzum eserlerde hece ölçüsü kullanılmıştır.
C) Genellikle zengin uyak kullanılmıştır.
D) Sade bir dil kullanılmıştır.

19. Dereler dolmasaydı
Çiçekler solmasaydı
Ölüm Allah'ın emri
Ayrılık olmasaydı

Bu şiirin türü aşağıdakilerden hangisidir?

- A) Tuyuğ B) Mani
C) Destan D) Gazel

20. Aşağıdakilerden hangisi Türk halk tiyatrosunun türlerinden biri değildir?

- A) Karagöz B) Komedi
C) Ortaoyunu D) Meddah

(417) TÜRK EDEBİYATI – 7

1. Aşağıdakilerden hangisi Beş Hececiler'in ortak özelliği değildir?

- A) Şiirde hece ölçüsünü kullanmaları
B) Divan şiiri geleneğinden yararlanmaları
C) Nazım birimi olarak dördlük kullanmaları
D) Şiirde kafiye ve redife yer vermeleri

2. Memleketçi edebiyata tepki olarak ortaya çıktılar. Çıkardıkları ortak kitabın adıyla anıldılar. Topluluğun en güçlü şairi Ziya Osman Saba'dır.

Bu parçada özellikleri verilen topluluk aşağıdakilerden hangisidir?

- A) Garipçiler
B) Maviciler
C) Yedi Meşaleciler
D) Hisarcılar

3. Aşağıdaki sanatçılardan hangisi Beş Hececiler arasında yer almıştır?

- A) Ömer Bedrettin Uşaklı
B) Orhan Seyfi Orhon
C) Necmettin Halil Onan
D) Zeki Ömer Defne

4. "Otuz Beş Yaş" şiiri aşağıdaki sanatçılardan hangisine aittir?

- A) Cahit Sıtkı Tarancı
B) Bedri Rahmi Eyüboğlu
C) Ahmet Muhip Dıranas
D) Ömer Bedrettin Uşaklı

5. Cumhuriyet sonrası Türk şiirinde gerçek yenilik onunla başladı. Şiirde ölçü, uyak gibi bağları atan akımın başlatıcısı oldu. "Bugün Pazar" şiirinde hapisanede yaşadıklarını anlattı. "Memleketimden İnsan Manzaraları" adlı eseri çok beğenildi.

Bu parçada tanıtılan sanatçı aşağıdakilerden hangisidir?

- A) Mehmet Akif Ersoy
B) Nazım Hikmet Ran
C) Kemalettin Kamu
D) Behçet Necatigil

6. Üç arkadaş Varlık dergisinde ölçüsüz, uyaksız, şairanelikten uzak yeni bir şiir akımı başlattılar. Konuşma dilinin yalınlığıyla yaşama sevincini, günlük yaşamı, küçük insanın yaşamını konu edindiler. Kısa sürede onların bu şiir anlayışı yaygınlaşarak dönemin ünlü şairlerini de etkiledi.

Bu parçada özellikleri verilen şiir anlayışı aşağıdakilerden hangisidir?

- A) Garip hareketi
B) Serbest nazım ve toplumcu şiir
C) Yedi Meşaleciler
D) İkinci Yeniler

7. Aşağıdakilerin hangisinde bilgi yanlışı vardır?

- A) Asaf Halet Çelebi, şiirlerinde Doğu mistisizmi ile tasavvufu birleştirdi.
B) Fazıl Hüsnü Dağlarca ilk şiirlerinden sonra hayal ve sembollerle dolu şiirler yazdı.
C) Cahit Külebi çok derinden duyduğu Anadolu'yu, aşk, hasret ve üzüntülerini anlatan lirik şiirler yazdı.
D) Behçet Necatigil, şiirlerinde her zaman aruz ölçüsünü kullandı.

1. OTURUM

8. Tiyatro, roman ve küçük hikâye türünde eserler yazmış olan sanatçı, toplum hayatının aksayan yönlerini, olayları, tipleri bir mizah üslubuyla anlattı. Mizahi yönü hep ön planda oldu. "Yaşar ne Yaşar ne Yaşamaz, Zübük" önemli eserlerindedir.

Bu parçada tanıtılan sanatçı aşağıdakilerden hangisidir?

- A) Aziz Nesin
- B) Haldun Taner
- C) Necati Cumalı
- D) Rifat Ilgaz

9. Aşağıdaki sanatçı – eser eşleştirmelerinin hangisi yanlıştır?

- A) Refik Erduran – Cengiz Han'ın Bisikleti
- B) Orhan Asena - Gilgamiş
- C) Turan Ofazoğlu - Köşebaşı
- D) Güngör Dilmen – Midas'ın Kulakları

10. Aşağıdakilerin hangisinde bilgi yanlıştır?

- A) Cevat Şakir Kabaağaçlı, eserlerini Halikarnas Balıkçısı takma adıyla yazmıştır.
- B) Yaşar Kemal'in romanlarında tabiat ve insan sevgisi ağır basar, romanı destana yaklaştırır.
- C) Haldun Taner'in oyunlarında ince ironi ve sanat endişesi göze çarpar.
- D) Sait Faik Abasıyanık, olay hikâyesinin en önemli temsilcilerinden biridir.

11. Batı'nın ruhun gücüne yer vermeyen maddeci yaşam görüşünü eleştirir. Toplumdaki oluşumu irdelemekten yana olan yazar, oyunlarında toplumun içinde bulunduğu hızlı değişimin değer karmaşasına yol açtığını belirtmiştir. "Yaprak Dökümü, Eski Şarkı, Balıkesir Muhasebecisi" adlı eserlerinde kuşaklar arasında aşılması güç kopmalar oluştuğunu göstermiştir.

Bu parçada tanıtılan sanatçı aşağıdakilerden hangisidir?

- A) Yakup Kadri Karaosmanoğlu
- B) Halide Edip Adivar
- C) Reşat Nuri Güntekin
- D) Refik Halit Karay

12. Aşağıdakilerden hangisi Necati Cumalı'nın eserlerinden biri değildir?

- A) Koçyiğit Köroğlu
- B) Susuz Yaz
- C) Boş Beşik
- D) Nalınlar

13. Aşağıdakilerin hangisinde bilgi yanlıştır?

- A) Yakup Kadri Karaosmanoğlu, Tanzimat'tan Cumhuriyet'e Türk toplumunun geçirdiği tarihsel aşamaları konu edinir.
- B) Peyami Safa, bireyin öne alındığı, ruh çözümlmelerine dayalı bir anlayışla roman yazar.
- C) Reşat Nuri Güntekin romanlarında mekân olarak hep İstanbul'u kullanmıştır.
- D) Memduh Şevket Esenal, emekleriyle yaşayan küçük insanları konu edindiği hikâyeleriyle öne çıkar.

14. Sanatçımız, Türkçenin bütün inceliklerini taşıyan, akıcı anlatımıyla anı ve seyahat yazılarını farklı boyutlara taşımıştır. "Taymis Kıyıları, Denizaşırı, Zeytin Dağı" eserlerinden bazılarıdır.

Bu parçada tanıtılan sanatçı aşağıdakilerden hangisidir?

- A) Falih Rıfkı Atay
- B) Nurullah Ataç
- C) Salah Birsal
- D) Sabahattin Eyuboğlu

15. Aşağıdakilerden hangisi eserlerinde mizahı konu edinen sanatçılardan biri değildir?

- A) Aziz Nesin
- B) Rifat Ilgaz
- C) Muzaffer İzgü
- D) Kemal Tahir

16. Aşağıdakilerden hangisi deneme yazarlarında bulunması gereken özelliklerden biri değildir?

- A) Çevreye ve dünyaya geniş bir bakış açısıyla bakmalıdır.
- B) Zengin bir edebiyat, felsefe ve sanat kültürü olmalıdır.
- C) Durağan olmayan, özgün bir anlatış tarzı olmalıdır.
- D) Ortaya sürdüğü düşünceleri kanıtlamaya çalışmalıdır.

17. Dünya edebiyatında denemenin kurucusu olarak bilinen sanatçı aşağıdakilerden hangisidir?

- A) Bacon
- B) Alain
- C) Montaigne
- D) Eliot

18. Nerede yayımlanırsa yayımlansın inceleme ve araştırmaya dayanan yazılardır. Yazarlar işledikleri konulardaki düşüncelerini okuyucuya benimsetme amacındadırlar. Yazılarını yazarken belgelerden, verilerden, incelemelerden ve araştırmalardan yararlanırlar. Söylediklerini kanıtlamak zorundadırlar.

Bu parçada sözü edilen yazı türü aşağıdakilerden hangisidir?

- A) Makale
- B) Sohbet
- C) Fıkra
- D) Deneme

19. Aşağıdakilerden hangisi Türk edebiyatındaki gezi yazısı sanatçılarından değildir?

- A) Evliya Çelebi
- B) Âşık Çelebi
- C) Yirmisekiz Mehmet Çelebi
- D) Kâtip Çelebi

20. Aşağıdakilerden hangisi Türk edebiyatında ilk anı örneğidir?

- A) Şecere-i Terakime
- B) Babürname
- C) Heşt - Behişt
- D) Miratü'l Memalik

1. OTURUM

(418) TÜRK EDEBİYATI – 8

1. Güzelliğin on par'etmez
Bu bendeki aşk olmasa
Eğlenecek yer bulaman
Gönlümdeki köşk olmasa
- Bu şiirde işlenen tema aşağıdakilerden hangisidir?**

A) Aşk B) Gurbet
C) Özlem D) Yalnızlık

2. Aşağıdakilerden hangisi Yahya Kemal Beyatlı'nın edebî özelliklerinden biri değildir?

A) Vatan, millet, İstanbul sevgisi gibi temaları işlemiştir.
B) Şiirlerinin çoğunu aruz ölçüsüyle yazmıştır.
C) Hikâyelerinde lirik bir anlatım kullanmıştır.
D) Şiirde iç ahenge ve musikiye önem vermiştir.

3. Aşağıdakilerden hangisi serbest nazım ve toplumcu şiirin temsilcilerindendir?

A) İlhan Berk
B) Bedri Rahmi Eyüboğlu
C) Ahmet Muhip Dıranas
D) Nazım Hikmet Ran

4. Anam bir yaz gecesi doğurmuş beni
burda,
Bu çamlıkta söylemiş son sözlerini
babam;
Şu karşiki bayırda verdiğim kuzuyu
kurda,
"Suna"nın başka köye gelin gittiği
akşam

Bu dördülikle ilgili aşağıdakilerden hangisi söylenemez?

A) Milli Edebiyat akımının etkisiyle yazılmıştır.
B) Hece ölçüsü kullanılmıştır.
C) Üzüntüler dile getirilmiştir.
D) Süslü ve sanatlı bir dil kullanılmıştır.

5. Aşağıdakilerden hangisi halk şiirinin biçimsel özelliklerini benimsememiştir?

A) Ömer Bedrettin Uşaklı
B) Mehmet Akif Ersoy
C) Necmettin Halil Onan
D) Zeki Ömer Defne

6. Şakaya ve nükteye çok yer verirler. Sahte değerlerle, samimi-yetsizlikle, aşırı duyarlılıkla alay ederler. Silik yaşamayı, büyük konulardan kaçmayı, küçük tasa ve sevinçleri şiirin başlıca temaları hâline getirmişlerdir. Geçim sıkıntısı ve günlük hayatı işlemişlerdir.

Bu parçada özellikleri verilen şiir anlayışı aşağıdakilerden hangisidir?

A) Garip hareketi
B) Serbest nazım ve toplumcu şiir
C) Milli Edebiyat zevk ve anlayışını sürdüren şiir
D) Öz şiir anlayışını sürdüren şiir

7. Aşağıdakilerden hangisi İkinci Yeni şiirinin temsilcilerinden değildir?

A) Ülkü Tamer
B) Hilmi Yavuz
C) Ece Ayhan
D) Cemal Süreya

8. İlk şiirlerinde biçim kaygısı ağır basar. Eski şiirle bağını sestten çok imge bağıyla kurar ve çağrışımlardan yararlanır. Şiiri, ince buluşların, duygulanımların, yaşanan gerçekliğin kendine özgü bir söyleyişin toplamıdır. "Üvercinka, Fotoğraf" önemli şiirleri arasındadır.

Bu parçada tanıtılan sanatçı aşağıdakilerden hangisidir?

A) Turgut Uyar
B) Edip Cansever
C) Sezai Karakoç
D) Cemal Süreya

9. Aşağıdakilerden hangisi Cumhuriyet Dönemi halk şiirinin özelliklerinden değildir?

A) Nazım birimi olarak dördüklük kullanılmıştır.
B) Şiirler serbest ölçüyle yazılmıştır.
C) Genellikle yarım uyak kullanılmıştır.
D) Doğa güzellikleri, kahramanlık, gurbet, ölüm gibi temalar işlenmiştir.

10. Aşağıdakilerden hangisi Cumhuriyet Dönemi halk şairlerinden değildir?

A) Âşık Veysel
B) Şeref Taşlıova
C) Murat Çobanoğlu
D) Behçet Necatigil

11. Belimizde kılıcımız kirmanî
Taşı deler mızrağımın temreni
Hakkımızda devlet etmiş fermanı
Ferman padişahın dağlar bizimdir

Bu şiirde işlenen tema aşağıdakilerden hangisidir?

A) Özlem B) Gurbet
C) Ölüm D) Kahramanlık

12. Cumhuriyet Dönemi'nde anlatmaya bağlı metinler olay ve durumları ele alışlarına göre gruplandırılır.

Aşağıdakilerden hangisi bunlardan biri değildir?

A) Toplumcu gerçekçi eserler
B) Serüven konusunu işleyen eserler
C) Bireyin iç dünyasını ele alan eserler
D) Modernizmi esas alan eserler

13. Aşağıdakilerden hangisi hikâyenin unsurlarından biri değildir?

A) Kişiler B) Mekân
C) Senaryo D) Zaman

1. OTURUM

14. Türk edebiyatında toplumcu gerçekçi sanatçıların öncülerindedir. Gözleme dayalı konuları yaşamından aldı. Sanatın tek amacının insanları daha iyiye, daha doğruya, daha güzele yükseltmek olduğunun altını çizen sanatçının, roman alanında ustalığını kanıtlađığı önemli eserlerinden biri de Kuyucaklı Yusuf'tur.

Bu parçada tanıtılan sanatçı aşağıdakilerden hangisidir?

- A) Sabahattin Ali
- B) Kemal Bilbaşar
- C) Samim Kocagöz
- D) Orhan Kemal

15. Aşağıdakilerin hangisinde sanatçı – eser eşleştirmesinde yanlışlık yapılmıştır?

- A) Nabizade Nazım - Karabibik
- B) Sami Paşazade Sezai - İntibah
- C) Ebubekir Hazım Tepeyran – Küçük Paşa
- D) Refik Halit Karay – Memleket Hikâyeleri

16. Aşağıdakilerden hangisi göstermeye bađlı metindir?

- A) Roman
- B) Fabl
- C) Tiyatro
- D) Masal

17. Sanatçının "Kocaođlan" adlı eseri çağdaş bir dramdır. Eserde kadın erkek ilişkileri ve sevgi, toplumsal baskıların etki alanında ele alınmıştır. Bireyin davranışlarını ele alan toplum ilişkilerinin çıkarıcı baskısı, değer yargıları, toplumsal baskıdan doğan bunalımlar ve çaresizlik işlenmiştir.

Bu parçada sözü edilen eserin yazarı aşağıdakilerden hangisidir?

- A) Yaşar Kemal
- B) Orhan Asena
- C) Kemal Tahir
- D) Necati Cumalı

18. Kardır yağın üstümüze geceden
Yağmurla karanlık bir düşünceden
Ormanın uğultusuyla birlikte
Ve dörtnala dümdüz bir mavilikte
Kar yağıyor üstümüze inceden

Bu dizelerle ilgili aşağıdakilerden hangisini söylemek yanlış olur?

- A) 11'li hece ölçüsüyle yazılmıştır.
- B) Redif kullanılmıştır.
- C) Garip şiirinin etkisiyle yazılmıştır.
- D) Dođa güzelliklerinden söz edilmiştir.

19. Dünya hayatını sembollerle anlatan "Merdiven" adlı şiir aşağıdaki sanatçılardan hangisine aittir?

- A) Ahmet Haşim
- B) Cahit Külebi
- C) Oktay Rıfat
- D) İlhan Berk

20. Toplum hayatını anlatmak, mahallî bir edebiyat yapmak sanatının en önemli özelliğidir. Kuvvetli gözlemleriyle hayat sahnelerini, olayları, konuşma dilinin canlılığıyla eserlerine yansıttı. İslami duyarlılığıyla milli kaygılarını birleştirdi.

Bu parçada tanıtılan sanatçı aşağıdakilerden hangisidir?

- A) Nazım Hikmet Ran
- B) Tevfik Fikret
- C) Necip Fazıl Kısakürek
- D) Ziya Gökalp

(421) FİZİK – 1

1. Doğayı anlama doğal olayların neden ve sonuçlarını öğrenme ve bunları matematiksel metotlarla ifade etme işi aşağıdaki hangi bilim dalı tarafından incelenir?

- A) Matematik
- B) Fizik
- C) Biyoloji
- D) Felsefe

2. Aşağıdakilerden hangisi Fizikte Türetilmiş Büyüklük olarak adlandırılır?

- A) Işık şiddeti
- B) Uzunluk
- C) Sıcaklık
- D) Hacim

3. Sarkan elektrik tellerinin sarkmasının nedenini inceleyen Fiziğin alt alanı hangisidir?

- A) Elektrik
- B) Mekanik
- C) Manyetizma
- D) Termodinamik

4. Bir öğrencinin okula giderken taşıdığı resim dosyası 450 g'dır. Buna göre, bu dosya kaç kg'dır?

- A) 45
- B) 4,5
- C) 0,45
- D) 0,045

5. Aşağıdaki ifadelerden hangisi nitel gözleme örnek olabilir?

- A) Ankara simidi 1 lira
- B) Kışın soğuk havalarda insanlar üşür.
- C) Sınıfın alanı 20 m² ölçülüyor.
- D) 4 Adet elma 1 kg geliyor.

6. Kemal, 2,5 kg'lık demir kutuyu 80 cm yükseklikteki raftan alıp yere koyduğunda kaç J'lük iş yapmış olur?(g=10m/s²)

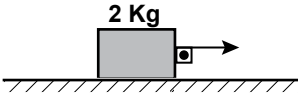
- A) 10
- B) 15
- C) 20
- D) 25

1. OTURUM

7. Birim zamanda yapılan işe güç denir. Aşağıdaki seçeneklerden hangisi güç tanımına ait bağıntıyı verir?

- A) Yol/Zaman
B) Kuvvet x Zaman
C) Yapılan İş/Zaman
D) Kütle x Zaman

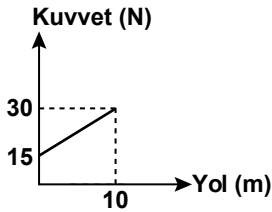
8. Şekildeki 2 kg'lık K cismine 40 N'luk kuvvet yatay doğrultuda uygulandığında zemin tarafından cisme 8 N'luk sürtünme kuvveti etki ediyor.



K cismi 4 metre yol aldığına göre, net kuvvetin yaptığı iş kaç J'dür?

- A) 128 B) 256 C) 340 D) 400

9. Sürtünmesiz yatay bir düzlemde cismin üzerine etki eden net kuvvetin yola bağlı değişim grafiği şekilde gibidir



Buna göre, cisme etki eden net kuvvetin 10 m'lik yol boyunca yaptığı iş kaç J'dür?

- A) 450 B) 300 C) 250 D) 225

10. Kütleli 10 kg olan tavşan 8 m/s'lik sabit hızla hareket ederken sahip olduğu kinetik enerji kaç J'dür?

- A) 150 B) 320 C) 460 D) 512

11. 250J'lük enerji harcayan bir tost makinesi, 200J'lük iş yapıyorsa verimi % kaçtır?

- A) 80 B) 75 C) 50 D) 25

12. Aşağıdaki enerji kaynaklarının hangisinde suyun potansiyel enerjisi kinetik enerjiye, kinetik enerjide elektrik enerjisine dönüşmüştür?

- A) Rüzgar enerjisi
B) Jeotermal enerji
C) Biyo-Kütle enerjisi
D) Hidroelektrik enerji

13. Hava sıcaklığının 40 °C ölçüldüğü Antalya'da Kelvin termometresi ile ölçüm yapılsaydı sıcaklık kaç °K olarak ölçülürdü?

- A) 140 B) 210 C) 233 D) 313

14. Isı ve sıcaklık ile ilgili aşağıdaki yargılardan hangisi yanlıştır?

- A) Isı bir enerjidir.
B) Isı maddenin cinsine bağlıdır.
C) Sıcaklık maddenin kütlesine bağlıdır.
D) Sıcaklık termometre ile ölçülür.

15. Donma noktası 5 °X kaynama noktası 55 °X olarak kabul edilen bir termometrede 40 °X olarak ölçülen bir sıcaklık kaç °C'dir?

- A) 70 B) 60 C) 30 D) 25

16. Hafif iki atom çekirdeğin yüksek sıcaklık ve basınç altında ağır çekirdek oluşmasına ne ad verilir?

- A) Fiziksel değişim
B) Füzyon
C) Filyon
D) Element

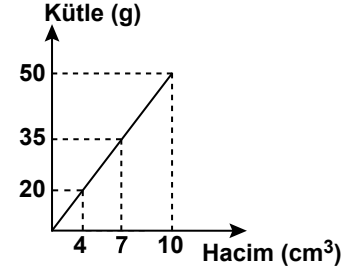
17. Aşağıdakilerden hangisi, fiziksel değişime örnektir?

- A) Ekmeyin küflenmesi
B) Kömürün yanması
C) Suyun kaynaması
D) Gümüşün kararması

18. Sülfürik asit bileşiğinin formülü aşağıdakilerden hangisidir?

- A) H₂SO₄ B) NaOH
C) CO₂ D) HCL

19. Küp şeklindeki katı bir maddenin kütle-hacim grafiği şekilde gibidir.



Buna göre, küpün 625 g'lık kütlelerinin bir kenarının uzunluğu kaç cm'dir?

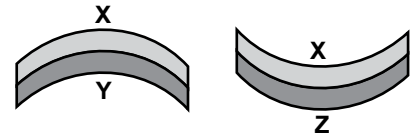
- A) 7 B) 5 C) 4 D) 2

20. Yarıçapı 1 m yüksekliği 2 m olan silindir şeklindeki kaba kaç m³ süt doldurulabilir? (π = 3 alınınız.)

- A) 6 B) 4 C) 3 D) 2

(425) FİZİK – 5

1. Birbirine perçinlenmiş XY, XZ metal çiftleri ısıtıldığında Şekil 1 ve Şekil 2 deki görünüme sahip olurlar.



Şekil 1

Şekil 2

Buna göre X, Y, Z metallerinin uzama katsayıları ($\alpha_x, \alpha_y, \alpha_z$) arasındaki ilişki nasıldır?

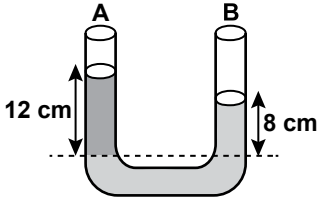
- A) $\alpha_y > \alpha_x > \alpha_z$ B) $\alpha_x > \alpha_z > \alpha_y$
C) $\alpha_z = \alpha_x > \alpha_y$ D) $\alpha_z > \alpha_x > \alpha_y$

2. Aşağıdaki araçlardan hangisi ile deniz ve göllerin dibine inildikçe basınç değişiminden yararlanılarak derinlik ölçülür?

- A) Manometre B) Altimetre
C) Batimetre D) Barometre

1. OTURUM


3. Şekildeki U borusunun A kolunda 12 cm yüksekliğinde X sıvısı B kolunda ise 8 cm su bulunmaktadır.



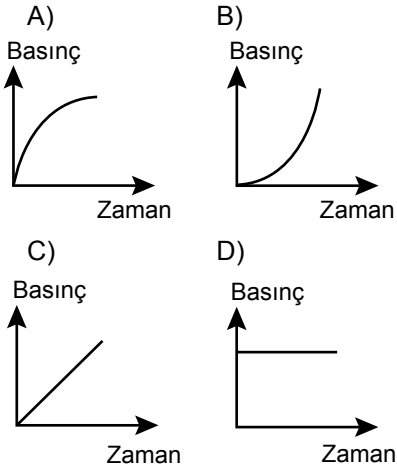
Suyun yoğunluğu 1 g/cm^3 olduğuna göre X sıvısının yoğunluğu kaç g/cm^3 'dür?

- A) $\frac{1}{3}$ B) $\frac{1}{2}$ C) $\frac{3}{2}$ D) $\frac{2}{3}$

4. Şekildeki kaba akış hızı sabit olan musluktan su akıyor.



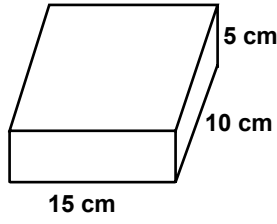
Kabın tabanına etkiyen basıncın zamana bağlı değişim grafiği aşağıdakilerden hangisidir?



5. Kütleli 2 kg olan metal cismin hızını 10 m/s 'den 12 m/s 'ye çıkaran kuvvetin yaptığı iş kaç joule olur?

- A) 244 B) 120 C) 100 D) 44

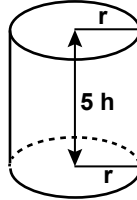
6. Boyutları 5 cm, 10 cm, 15 cm olan dikdörtgenler prizması şeklindeki katı cismin sıcaklığı 10°C 'den 110°C 'ye çıkartılıyor.



Buna göre prizmanın hacmindeki genişleme miktarı kaç cm^3 olur? ($\alpha = 1 \cdot 10^{-5} \text{ } 1/^\circ\text{C}$)

- A) $750 \cdot 10^{-2}$ B) $325 \cdot 10^{-2}$
C) $450 \cdot 10^{-2}$ D) $225 \cdot 10^{-2}$

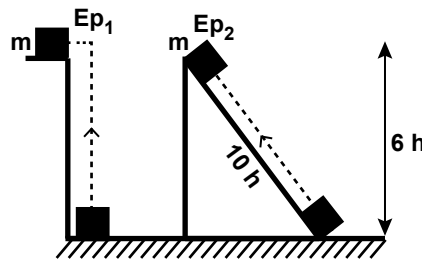
7. Yarıçapı r, yüksekliği 5h olan silindir şeklindeki gibidir.



Buna göre silindirin zemine uyguladığı basınç kaç hgd'dir? ($g = \text{Yerçekimi ivmesi}$, $d = \text{Yoğunluk}$)

- A) 6 B) 5 C) 4 D) 3

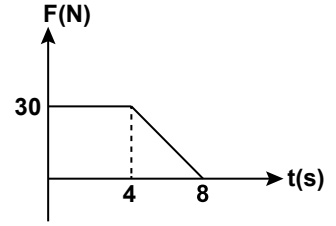
- 8.



Farklı yollardan 6h yüksekliğine çıkarılan özdeş m kütleli cisimlerin kazandıkları potansiyel enerjiler Ep_1 ve Ep_2 arasındaki ilişki aşağıdakilerden hangisidir?

- A) $Ep_1 = 0 = Ep_2$
B) $Ep_1 > Ep_2$
C) $Ep_1 = Ep_2$
D) $Ep_1 < Ep_2$

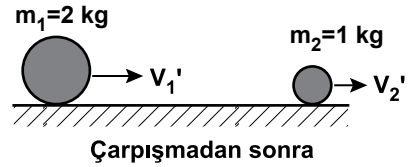
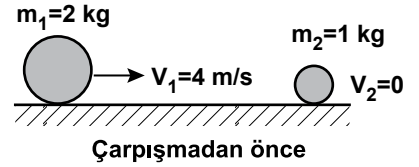
9. Cisme etki eden kuvvetin zamana bağlı değişim grafiği şekildeki gibidir.



Buna göre 8. saniye sonunda cisme uygulanan itme kaç N.s olur?

- A) 34 B) 64 C) 180 D) 300

10. Şekildeki 2 kg kütleli cisim 4 m/s hızla sürtünmesiz yatay zeminde durmakta olan 1 kg kütleli cisme merkezi esnek olarak çarpıyor.



Buna göre çarpışmadan sonraki V_1' ve V_2' hızları kaç m/s olur?

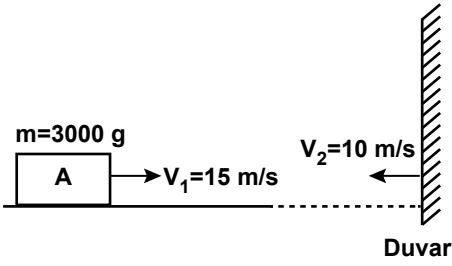
- | | V_1' | V_2' |
|----|----------------|----------------|
| A) | $\frac{16}{3}$ | $\frac{4}{3}$ |
| B) | $\frac{1}{4}$ | $\frac{3}{4}$ |
| C) | $\frac{3}{4}$ | $\frac{3}{16}$ |
| D) | $\frac{4}{3}$ | $\frac{16}{3}$ |

11. Kütleli M olan Dünya'nın kendisinden d kadar uzaklıktaki m kütleli gezegene uyguladığı çekim kuvveti aşağıdakilerden hangisidir? ($G = \text{Evrensel çekim sabiti}$)

- A) $F = G \frac{M}{d}$ B) $F = G \frac{Mm}{d}$
C) $F = G \frac{Mm}{d^2}$ D) $F = G \frac{Mm}{2d}$

1. OTURUM

12. Kütleli 3000 gram hızı 15m/s olan hareketli A cismi şekildedeki gibi duvara çarpıp 10m/s hızla dönüyor.



Buna göre momentumundaki değişme kaç kg.m/s'dir?

- A) 75 B) 30 C) 25 D) 5

13. Sürtünmesiz yatay zemin üzerinde durmakta olan 8 kg'lık cisme 32 N'luk kuvvet 4 metrelik yol boyunca uygulanıyor.



Buna göre cismin yaya çarptığı andaki hızı kaç m/s'dir?

- A) 4 B) 16
C) $4\sqrt{2}$ D) $5\sqrt{2}$

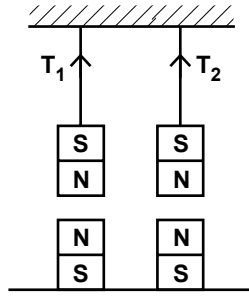
14. Aşağıdakilerden hangisi kaldırma örnek verilemez?

- A) Sandalye
B) Makas
C) Keser
D) Eşit kollu terazi

15. Bir vida 12 dönme yapınca 6 cm yol alıyor. Bu vidanın vida adımı kaç cm'dir?

- A) 5 B) 0,5 C) 2,5 D) 0,2

16. Şekildeki asılı duran mıknatısların altına özdeş mıknatıslar yerleştiriliyor.



Bu işlemten sonra iplerdeki gerilme kuvvetleri nasıl değişir?

- A) T_1 ve T_2 artar.
B) T_1 azalır T_2 artar.
C) T_1 artar T_2 azalır.
D) T_1 ve T_2 azalır.

17. Aşağıdakilerden hangisi mıknatısa yaklaştırıldığında diğerlerine göre mıknatıstan çok az etkilenir?

- A) Demir B) Uranyum
C) Nikel D) Kobalt

18. Üzerinden 9 amperlik akım geçen telin 30 cm uzağında oluşan manyetik alanın şiddeti kaç Tesla'dır? ($K=10^{-7}$ T.m/A)

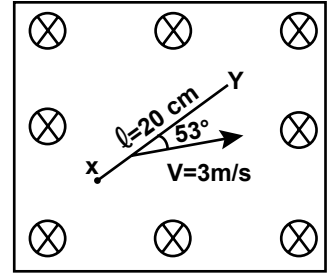
- A) $6 \cdot 10^{-6}$ B) $5 \cdot 10^{-6}$
C) $4 \cdot 10^{-6}$ D) $3 \cdot 10^{-6}$

19. Mıknatısın etrafında oluşturduğu manyetik alan ile ilgili ,
I. Mıknatısın etrafında oluşan manyetik alan çizgileri mıknatısın kutuplarına doğru sıklaşır ve kutuplarda manyetik alan şiddeti daha büyüktür.
II. Manyetik alan çizgileri mıknatısın N kutbundan S kutbuna doğrudur.
III. Manyetik alan çizgileri mıknatısın S kutbundan N kutbuna doğrudur.
IV. Manyetik alan vektörel bir büyüklüktür.

İfadelerinden hangileri doğrudur?

- A) I, II ve III B) II ve III
C) I, II ve IV D) II, III ve IV

20. Şekildeki $B=10 \cdot 10^{-5}$ T'lık düzgün manyetik alanda 20 cm uzunluğundaki XY teli 3 m/s'lik hızla hareket ettiriliyor.



Buna göre XY telinde oluşan indüksiyon emk'sı kaç volt olur?($\sin 53=0,8$)

- A) $4,8 \cdot 10^{-5}$ B) $10 \cdot 10^{-5}$
C) $1,8 \cdot 10^{-5}$ D) $2,2 \cdot 10^{-5}$

(432) KİMYA – 2

1. Dayanıklı ve korozyona karşı dirençli maddeler elde etmek için, belli oranlarda saf metallerin karıştırılmasıyla oluşturulan çözeltiler aşağıdakilerden hangisidir?

- A) Koloit B) Alaşım
C) Amalgam D) Süspansiyon

2. Karışımlarla ilgili aşağıdaki ifadelerden hangisi yanlıştır?

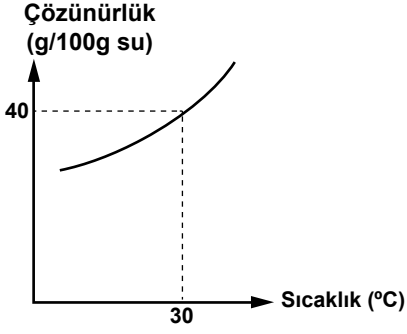
- A) Farklı tür tanecikler içerirler.
B) Fiziksel yollarla bileşenlerine ayrıştırılabilirler.
C) Karışımı oluşturan maddeler arasında sabit bir oran vardır.
D) Karışımı oluşturan maddeler kimyasal özelliklerini korurlar.

3. İçinde gazlı içecek bulunan bir şişenin kapağı açıldığında karbondioksit gazı çıkışının gözlenmesinin sebebi aşağıdakilerden hangisidir?

- A) Gazların çözünürlüğü sıcaklık arttıkça genelde azalır.
B) Çözünürlük sıvılar için ayırt edici bir özelliktir.
C) Sıvıların çözünürlüğünde basıncın etkisi yok denecek kadar azdır.
D) Gazların sudaki çözünürlüğü gaz basıncıyla doğru orantılıdır.

1. OTURUM

4. Şekilde X tuzunun, sudaki çözünürlük-sıcaklık grafiği verilmiştir.



30 °C'ta 200 g su ile 60 g X tuzu karıştırılıyor. Aynı sıcaklıkta bu çözeltiyi doymun hale getirmek için kaç gram X tuzu eklenmelidir?

- A) 15 B) 20 C) 50 D) 80

5. Çözeltilerde donma noktasının düşmesi,

- I. Çözeltideki tanecik sayısı
II. Çözünen madde miktarı
III. Çözünen madde türü

niceliklerinden hangilerine bağlıdır?

- A) Yalnız III B) I ve II
C) II ve III D) I, II ve III

6. Aşağıdaki maddelerden hangisi bulunduğu karışımdan mıknatıs ile çekilerek ayrılmaz?

- A) Altın B) Nikel
C) Kobalt D) Demir

7. Süzme işlemi,

- I. Sıvı - gaz
II. Katı - sıvı
III. Katı - gaz

heterojen karışımlarından hangilerine uygulanabilir?

- A) Yalnız I B) Yalnız III
C) II ve III D) I, II ve III

8. Ayıklama yöntemine,

- I. Pirincin taştan ayrılması
II. Sağlam meyvelerin çürüklerden ayrılması
III. Tuzlu suyun bileşenlerine ayrılması

işlemlerinden hangileri örnek olarak gösterilebilir?

- A) Yalnız I B) I ve II
C) II ve III D) I, II ve III

9. Ayırma hunisi kullanılarak yapılan işlem, aşağıda verilen karışımlardan hangisini ayırmada kullanılır?

- A) Homojen sıvı - sıvı
B) Homojen katı - sıvı
C) Heterojen sıvı - sıvı
D) Heterojen katı - sıvı

10. Bir sıvı içerisinde çözünebilen iki farklı katının çözünürlük farklarından yararlanılarak birbirinden ayrılması işlemi, aşağıdakilerden hangisidir?

- A) Özütleme
B) Basit damıtma
C) Ayrımsal damıtma
D) Ayrımsal kristallendirme

11. Sabun ve deterjanlara genel olarak ne ad verilir?

- A) Yüzey aktif maddeler
B) Kireç çözücüler
C) Yağ asitleri
D) Ağartıcılar

12. Yağ + KOH_(suda) → Gliserin_(sıvı) + X tepkimesinde verilen X maddesi aşağıdakilerden hangisidir?

- A) NaOH
B) Yağ asidi
C) Beyaz sabun
D) Arap sabunu

13. Oksidasyon tepkimesi (yük-seltgenme) yoluyla bir maddeyi beyazlatan veya ağartan, onun rengini çıkartan kimyasal madde aşağıdakilerden hangisidir?

- A) Çamaşır suyu
B) Beyaz sabun
C) Arap sabunu
D) Deterjan

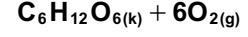
14. CaCO_{3(k)} + ısı → CaO_(k) + CO_{2(g)} tepkimesi aşağıdaki hangi olaya aittir?

- A) Seramik eldesi
B) Harcın sertleşmesi
C) Sönmüş kireç eldesi
D) Sönmemiş kireç eldesi

15. Kumun, soda ve kireçle yüksek sıcaklıkta karıştırılıp eritilmesiyle oluşturulan madde aşağıdakilerden hangisidir?

- A) Cam B) Beton
C) Sabun D) Deterjan

16. $6CO_{2(g)} + 6H_2O_{(s)} \xrightarrow{\text{ışık enerjisi}} C_6H_{12}O_{6(k)} + 6O_{2(g)}$ klorofil



tepkimesi aşağıdaki olaylardan hangisine aittir?

- A) Sindirim B) Solunum
C) Fotosentez D) Çözünme

17. Karbonhidratlar için aşağıdaki-lerden hangisi söylenemez?

- A) Karbonhidratlar bitkiler tarafından fotosentez yolu ile üretilir.
B) Moleküllerinde C, H ve O atomları bulunur.
C) Sindirimi midede tamamlanır.
D) En temel bileşiği glikozdur.

18. Aşağıdaki karbonhidratlardan hangisi sindirim sistemimizde sindirilmeden doğrudan kana geçer?

- A) Maltoz B) Glikoz
C) Nişasta D) Selüloz

19. Havada bulunan CO₂ miktarı her yıl artmaktadır.

Bu durum aşağıdakilerden hangisinin gerçekleştiğini gösterir?

- A) Fosil yakıt kullanımının arttığını
B) Doğadaki yeşil bitkilerin arttığını
C) O₂ ve CO₂ dengesinin korun-duğunu
D) Bitkilerin daha fazla fotosentez yaptığını

20. Aşağıda verilenlerden hangisi çevreye zararlı maddelerden değildir?

- A) Ağır metaller
B) Tarım ilaçları
C) Sanayi atıkları
D) Çürümüş sebze ve meyveler

1. OTURUM

(436) KİMYA – 6

1. Aşağıdaki ifadelerden hangisi Arrhenius'un teorisine göre asit ve bazları açıklar?

- A) Sulu çözeltilerine hidrojen veya hidroksit iyonu verebilen maddelerdir.
- B) Metallerin veya ametallerin oksijenle oluşturdukları bileşiklerdir.
- C) Sulu çözeltilerine proton verebilen veya sulu çözeltilerinden proton alabilen maddelerdir.
- D) Serbest elektron çifti bulunan ve bunu başka maddeye verebilen veya serbest elektronları alabilen maddelerdir.

2. Asitler için aşağıdakilerden hangisi yanlıştır?

- A) Suda iyonlaşarak çözünürler.
- B) Mavi turnusol kağıdını kırmızıya çevirirler.
- C) Tüm metallere etki ederek H₂ gazı açığa çıkarırlar.
- D) Bazlarla tepkimeye girerek genellikle tuz ve su oluştururlar.

3. NH₃ bileşiğinin bazik özellik gösterdiğini açıklayan denklem aşağıdakilerden hangisidir?

- A) $\text{NH}_3(\text{g}) \rightleftharpoons \text{NH}_3(\text{s})$
- B) $\text{N}_2(\text{g}) + 3\text{H}_2(\text{g}) \rightleftharpoons 2\text{NH}_3(\text{s})$
- C) $2\text{NH}_3(\text{g}) + \frac{5}{2}\text{O}_2(\text{g}) \rightleftharpoons 2\text{NO}(\text{g}) + 3\text{H}_2\text{O}(\text{g})$
- D) $\text{NH}_3(\text{g}) + \text{H}_2\text{O}(\text{s}) \rightleftharpoons \text{NH}_4^+(\text{suda}) + \text{OH}^-(\text{suda})$

4. Değerliği 3 olan asit aşağıdakilerden hangisidir?

- A) HCl
- B) H₃PO₄
- C) H₂CO₃
- D) H₂SO₄

5. 25 °C'ta pH değeri 8 olan bir çözeltideki H⁺ ve OH⁻ iyonlarının derişimi kaç molardır?

	[H ⁺]	[OH ⁻]
A)	8x10 ⁻¹	8x10 ⁻¹³
B)	8x10 ⁻⁸	8x10 ⁻⁶
C)	1x10 ⁻⁸	1x10 ⁻⁶
D)	1x10 ⁻⁶	1x10 ⁻⁸

6. Cl elementinin, H ve O elementleriyle oluşturduğu aşağıdaki asitlerden hangisi en zayıftır?

- A) HClO
- B) HClO₂
- C) HClO₃
- D) HClO₄

7. İki çözelti karıştırıldığında, birinci çözeltiden gelen 3 mol H⁺ iyonu ile, ikinci çözeltiden gelen 3 mol OH⁻ iyonu tamamen birleşiyor ve 3 mol H₂O oluşuyor.

Buna göre, karışım için aşağıdakilerden hangisi doğrudur?

- A) Nötrdür.
- B) Asidiktir.
- C) Baziktir.
- D) pH değeri sıfırdır.

8. Derişimi bilinmeyen bir asit çözeltisinin derişimini bulmak için, yapılacak titrasyon işlemi sırasında aşağıdaki maddelerden hangisi kullanılır?

- A) Derişimi bilinen asit çözeltisi
- B) Derişimi bilinen baz çözeltisi
- C) pH değeri 7 olan çözelti
- D) Tuzlu su çözeltisi

9. NH₄Cl asidik bir tuzdur.

Buna göre, bir miktar NH₄Cl kullanılarak hazırlanan sulu çözelti ile ilgili aşağıdakilerden hangisi doğrudur?

- A) Baziktir.
- B) Nötrdür.
- C) pH değeri 7'den küçüktür.
- D) H⁺ ve OH⁻ iyonlarının derişimleri aynıdır.

10. Aşağıdakilerden hangisinin en önemli özelliği, çözeltiyeye az miktarda asit ya da baz eklendiğinde pH değerlerini hemen hiç değiştirmemeleridir?

- A) Nötr çözelti
- B) Tampon çözelti
- C) Amfoter madde
- D) Elektrolit çözelti

11. Bir redoks tepkimesinde indirgenen maddeye ne ad verilir?

- A) İndirgen
- B) Yükseltgen
- C) İndirgenme
- D) Yükseltgenme

12. Ag metalinin indirgenme eğilimi Na metalinden büyüktür.

Buna göre, bu maddeler arasında kendiliğinden gerçekleşen tepkimenin net iyon denklemi aşağıdakilerden hangisidir?

- A) $\text{Ag}^+(\text{suda}) + \text{Na}(\text{k}) \rightarrow \text{Ag}(\text{k}) + \text{Na}^+(\text{suda})$
- B) $\text{Ag}(\text{k}) + \text{Na}^+(\text{suda}) \rightarrow \text{Ag}^+(\text{suda}) + \text{Na}(\text{k})$
- C) $\text{Ag}(\text{k}) + \text{Na}(\text{k}) \rightarrow \text{Ag}^+(\text{suda}) + \text{Na}^+(\text{suda})$
- D) $\text{Ag}^+(\text{suda}) + \text{Na}^+(\text{suda}) \rightarrow \text{Ag}(\text{k}) + \text{Na}(\text{k})$

13. Yükseltgenme basamakları ile ilgili aşağıdaki ifadelerden hangisi yanlıştır?

- A) Periyodik cetvelin 1A grubu metalleri bileşiklerinde +1 yükseltgenme basamağına sahiptir.
- B) Tek atomdan oluşan iyonun yükseltgenme basamağı o iyonun yükünün değerine eşittir.
- C) Serbest haldeki element atomlarının yükseltgenme basamağı sıfırdır.
- D) Hidrojen bütün bileşiklerinde +1 yükseltgenme basamağına sahiptir.

14. H₂PO₄⁻ iyonunda, P atomunun yükseltgenme basamağı kaçtır?

- A) -5
- B) +3
- C) +5
- D) +6

15. $\text{Pb}^{2+}(\text{suda}) + 2\text{e}^- \rightarrow \text{Pb}(\text{k})$ E° = -0,13V
 $\text{Ag}^+(\text{suda}) + \text{e}^- \rightarrow \text{Ag}(\text{k})$ E° = 0,80V
indirgenme yarı tepkimeleri verilen Pb – Ag pilinin E° değeri kaç voltur?

- A) -0,93
- B) 0,67
- C) 0,93
- D) 1,00

16. Pil şeması, Zn/Zn²⁺ // Pb²⁺/Pb olan elektrokimyasal pilin tepkime denklemi aşağıdakilerden hangisidir?

- A) $\text{Zn}(\text{k}) + \text{Pb}^{2+}(\text{suda}) \rightarrow \text{Zn}^{2+}(\text{suda}) + \text{Pb}(\text{k})$
- B) $\text{Zn}^{2+}(\text{suda}) + \text{Pb}(\text{k}) \rightarrow \text{Zn}(\text{k}) + \text{Pb}^{2+}(\text{suda})$
- C) $\text{Zn}(\text{k}) + \text{Pb}(\text{k}) \rightarrow \text{Zn}^{2+}(\text{suda}) + \text{Pb}^{2+}(\text{suda})$
- D) $\text{Pb}^{2+}(\text{suda}) + \text{Zn}^{2+}(\text{suda}) \rightarrow \text{Zn}(\text{k}) + \text{Pb}(\text{k})$

1. OTURUM

(441) BİYOLOJİ – 1

17. Derişim pilleri ile ilgili aşağıdakilerden hangisi yanlıştır?

- A) Bir redoks tepkimesidir.
- B) Çözeltilerin türü aynıdır.
- C) Elektrotların türü aynıdır.
- D) Çözeltilerin derişimleri aynıdır.

18. Aşağıdakilerden hangisi yükseltgenme yarı tepkimesidir?

- A) $F_{2(g)} + 2e^- \rightarrow 2F^-_{(suda)}$
- B) $Fe_{(k)} \rightarrow Fe^{2+}_{(suda)} + 2e^-$
- C) $Mn^{5+}_{(suda)} + 3e^- \rightarrow Mn^{2+}_{(suda)}$
- D) $Cu^+_{(suda)} + e^- \rightarrow Cu_{(k)}$

19. Elektroliz ile ilgili verilen bilgilerden hangisi doğrudur?

- A) Kendiliğinden gerçekleşir.
- B) Elektrik akımı yardımıyla gerçekleşir.
- C) Anotta pozitif yüklü iyonlar göç eder.
- D) Anotta indirgenme, katotta yükseltgenme olur.

20. Erimiş KBr tuzunun elektrolizi sırasında anotta ve katoda göç eden iyonlar aşağıdakilerden hangileridir?

	Anotta göç eden iyonlar	Katoda göç eden iyonlar
A)	Br^-, OH^-	K^-, H^+
B)	K^+, H^+	Br^-, OH^+
C)	Br^-	K^+
D)	K^+	Br^-

1. Aşağıdakilerden hangisi nitel bir gözlemdir?

- A) Ahmet'in vücut sıcaklığı 37 °C olarak ölçüldü.
- B) Çorba çok sıcaktı ağızım yandı.
- C) Bizim ev 140 m², 3 oda 1 salon.
- D) Günde 1.5 km yürüyüş yapıyorum.

2. I. Deneylerin kurulması ve kontrolü
II. Hipotezin ortaya konması
III. Problemin tanımlanması

Yukarıda verilen bilimsel süreçte yapılacak işlerin öncelik sıralaması hangisidir?

- A) I - II - III
- B) II - III - I
- C) III - II - I
- D) III - I - II

3. Aşağıdakilerden hangisi biyolojinin alt bilim dallarından olan restorasyon ekolojisi çalışmasıdır?

- A) Şehirlere parklar ve bahçeler kurma
- B) Bozulmuş ekosistemleri doğal koşullarına geri döndürme
- C) Hidroelektrik santraller kurma
- D) Canlılar arasında gen aktarımı

4. Aşağıdaki canlılardan hangisi karnivor olarak beslenir?

- A) Ev sıçanı
- B) İnsan
- C) Aslan
- D) Ayı

5. I. ATP
II. RNA
III. DNA

Yukarıdakilerden hangileri hücre içi biyokimyasal reaksiyonlarda kullanılan enerjiyi taşır?

- A) Yalnız I
- B) I ve II
- C) II ve III
- D) I, II ve III

6. Aşağıdakilerden hangisi eşeysiz üremenin özelliğidir?

- A) Üreme hücrelerine gamet denir.
- B) Oluşan bireyler birbirleriyle aynı kalıtsal yapıdadır.
- C) Erkek ve dişi üreme hücrelerinin birleşmesiyle döllenme meydana gelir.
- D) Tür içinde yeni gen kombinasyonları oluştuğu için dayanıklı bireyler oluşur.

7. • Enerji kaynağı olarak kullanılmazlar.
• Enzimlerin yapısına kofaktör olarak katılırlar.

Yukarıda bazı özellikleri verilen canlıların yapısında bulunan temel bileşik hangisidir?

- A) Vitaminler
- B) Mineraller
- C) Proteinler
- D) Yağlar

8. Canlılarda hemoglobin ve bazı pigmentlerin yapısına katılan mineral hangisidir?

- A) Kalsiyum (Ca)
- B) Fosfor (P)
- C) Demir (Fe)
- D) İyot (I)

9. Bitkilerin hücre çeperini oluşturan polisakkarit aşağıdakilerden hangisidir?

- A) Kitin
- B) Nişasta
- C) Glikojen
- D) Selüloz

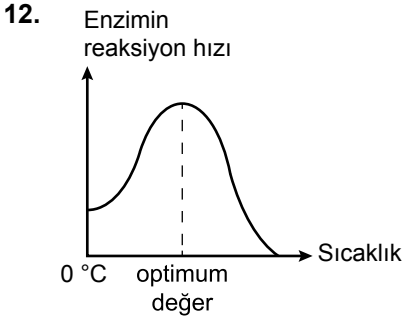
10. Bitkisel kaynaklı doymamış yağların hidrojenle doyurulup katılaştırılmasıyla oluşan yağ aşağıdakilerden hangisidir?

- A) Zeytinyağ
- B) İç yağ
- C) Margarin
- D) Tereyağ

11. Aşağıdakilerden hangisi proteinlerin yapı taşı (monomeri) dir?

- A) Glikoz
- B) Gliserin
- C) Amino asitler
- D) Yağ asitleri

1. OTURUM



Grafiğe göre aşağıdakilerden hangisi **yanlıştır**?

- A) Düşük sıcaklık dereceleri enzimin etkinliğini azaltır.
B) Enzimin en iyi çalıştığı sıcaklık optimum sıcaklıktır.
C) Optimum değerinin üzerindeki sıcaklık bir süre sonra enzimin çalışmasını durdurur.
D) 0 °C'de enzimin çalışması durur.
13. Hücre teorisine göre aşağıdakilerden hangisi **yanlıştır**?
- A) Canlılarda hayatsal olaylar hücre içinde gerçekleşir.
B) Bütün organizmaların temel yapı ve görev birimi hücredir.
C) Bütün organizmalar birden fazla hücreden meydana gelir.
D) Her hücre kendinden önceki hücrenin bölünmesi ile meydana gelir.
14. Aşağıdakilerden hangisi hücredeki zarsız organellerdendir?
- A) Golgi B) Lizozom
C) Mitokondri D) Ribozom
15. İnsanlarda aşağıda verilen hücrelerden hangisinde lizozom **bulunmaz**?
- A) Alyuvar
B) Akyuvar
C) Karaciğer hücresi
D) Dalak hücresi
16. I. Kromoplast
II. Kloroplast
III. Lökoplast
- Yukarıdaki plastitlerden hangileri, renk pigmentleri bulundurur?
- A) Yalnız I B) I ve II
C) II ve III D) I, II ve III

17. I. Hücrenin özgüllüğünü oluşturur.
II. Zara seçici-geçirgen özellik kazandırır.
III. Hücrelerin hormon gibi maddelere cevap vermesini sağlar.

Yukarıdakilerden hangileri **glikokaliks tabakasının görevlerindendir**?

- A) Yalnız I B) I ve II
C) II ve III D) I, II ve III

18. Aşağıdaki faktörlerden hangisinin artışı difüzyon hızının azalmasına neden olur?

- A) Sıcaklık
B) Hücre zarındaki por sayısı
C) İki ortam arasındaki yoğunluk farkı
D) Zardan geçecek molekül büyüklüğü

19. Aşağıdakilerden hangisi bitki hücrelerine ait bir özellik **değildir**?

- A) Glikojen depo etme
B) Nişasta depo etme
C) Hücre çeperi bulundurma
D) Plastit bulundurma

20. I. Ara filamentler
II. Mikrofilamentler
III. Mikrotübüller

Yukarıdaki hücre iskeleti elemanlarından hangileri, hücre içindeki yapıların (çekirdek, organeller vb.) yerlerinin sabitlenmesini sağlar?

- A) Yalnız I B) I ve II
C) II ve III D) I, II ve III

(443) BİYOLOJİ – 3

1. Aşağıdakilerden hangisi bilim adamının özelliklerinden biri **değildir**?

- A) Akılcı ve gerçekçi davranır.
B) Yeniliklere açık ve aydın bir kişiliğe sahiptir.
C) Daha önce yapılan gözlem ve deneylerden etkilenir.
D) Yaptığı çalışmalarda dikkatli, kararlı, şüpheli ve sabırlıdır.

2. Doğadaki olayları duyu organları ya da ölçü aletleri kullanarak algılamaya ne ad verilir?

- A) Problem B) Gerçek
C) Veri D) Gözlem

3. Bilimsel bir problemin çözümü olarak kurulan hipotez, gözlem ve deneylerle doğrulanmıyorsa, bir sonraki aşamada bilim adamı aşağıdakilerden hangisini yapmalıdır?

- A) Başka bir hipotez kurmalı
B) Yeni bir problem belirlemeli
C) Teorisini bilim dünyasına duyurmalı
D) Hipotezi ile ilgili nitel ve nicel gözlemlerle kontrollü deneyler yapmalı

4. Yaptığı çalışmalarla kuduz aşısını ve mikroskopik canlıların fermantasyona neden olduğunu bulan bilim adamı aşağıdakilerden hangisidir?

- A) Galileo
B) Pasteur
C) Charles Darwin
D) Gregor Mendel

5. Canlı dokularının yapısını, en ince ayrıntısına kadar inceleyen biyolojinin alt bilim dalı aşağıdakilerden hangisidir?

- A) Anatomi B) Histoloji
C) Embriyoloji D) Fizyoloji

1. OTURUM

6. Aşağıdakilerden hangisi biyolojinin direkt olarak ilişkili olduğu bilim dallarındandır?

- A) Sosyoloji B) Kimya
C) Astronomi D) Coğrafya

7. Aşağıdakilerden hangisi laboratuvarında uyulması gereken kurallardan biri değildir?

- A) Yapacağınız çalışma hakkında önceden gerekli bilgileri edinmelisiniz.
B) Çalışma sırasında öğretmen tarafından yapılan uyarılara uymalısınız.
C) Asit, baz gibi tehlikeli maddeler döküldüğünde bol alkole yıkamalısınız.
D) Laboratuvara yiyecek içecek getirmemelisiniz.

8. Herhangi bir canlının doğrudan sıvı bir ortam içinde incelenmesine ne denir?

- A) Vital inceleme
B) Boyama tekniği
C) Doku kültürü
D) Kesit alma

9. I. Bitkiler
II. Algler
III. Ayırtıştırıcılar

Yukarıdakilerden hangileri üretici canlılar grubunda yer alır?

- A) Yalnız I B) I ve II
C) II ve III D) I, II ve III

10. Aşağıdakilerden hangisi beslenme şekli olarak omnivor canlılardandır?

- A) Koyun B) İnsan
C) Kartal D) Aslan

11. Aşağıdakilerden hangisi birincil tüketici canlılardandır?

- A) Buğday B) Kurt
C) Koyun D) Köpek

12. Aşağıdakilerden hangisi "Bir popülasyonun barındırabileceği en fazla birey sayısını" ifade eder?

- A) Popülasyonun doğum ve ölüm oranı
B) Popülasyonun yaş dağılımı
C) Popülasyonun yoğunluğu
D) Popülasyonun taşıma kapasitesi

13. Bir popülasyonun büyüklüğü aşağıdakilerden hangisi ile ifade edilir?

- A) Popülasyonda bulunan birey sayısı
B) Popülasyonun yaşadığı çevreyle
C) Popülasyondaki bireylerin yaş durumuyla
D) Popülasyonun beslenme şekliyle

14. I. Fiziksel
II. Kimyasal
III. Biyolojik

İnsanların etkisi sonucu ortaya çıkan ve sulara karışan maddeler, suyun yukarıda verilen özelliklerinden hangilerinde değişikliğe neden olur?

- A) Yalnız I B) I ve II
C) II ve III D) I, II ve III

15. Aşırı artan karbondioksit, atmosferin üst katmanlarında birikerek ısının atmosferin dışına çıkmasını engeller.

Buna bağlı olarak dünya yüzeyinde sıcaklığın artmasına ne denir?

- A) Sera etkisi
B) Süksesyon
C) Ötrifikasyon
D) Çevrenin taşıma kapasitesi

16. Aşağıdakilerden hangisi ses kirliliğinin insan üzerindeki fizyolojik etkilerindendir?

- A) Stres
B) Sinirlilik
C) Geçici işitme kaybı
D) İş veriminin düşmesi

17. Bitki köklerinin suya yönelmesi hareketine ne ad verilir?

- A) Jeotropizma
B) Fototropizma
C) Kemotropizma
D) Hidrotropizma

18. I. İlgüdüsel davranışlar öğrenme ile değişip farklılaşabilir.
II. İlgüdü şeklindeki davranışlarda organizma belirli bir uyarıya karşı daima aynı şekilde tepki oluşturur.

Yukarıda içgüdüsel davranışlarla ilgili verilenler için ne söylenebilir

- A) Yalnız I doğru
B) Yalnız II doğru
C) Her ikisi de doğru
D) Her ikisi de yanlış

19. Aşağıdaki hayvanların hangisinin sosyal yaşamlarında grup lideri yoktur?

- A) Kurt B) Aslan
C) Maymun D) Kral penguen

20. Canlıların kendiliğinden var olduğu, yani cansız maddelerden kendiliğinden meydana geldiğini savunan, hayatın başlangıcı ile ilgili görüş aşağıdakilerden hangisidir?

- A) Biyogenez B) Abiyogenez
C) Heterotrof D) Panspermia

1. OTURUM

1. Bir kız, bir erkek çocukları olan ailenin doğacak üçüncü çocuklarının kız olma olasılığı % kaçtır?

- A) 25 B) 50 C) 75 D) 100

2. Dihibrit bir çaprazlama sonucunda oluşan döllerde 9:3:3:1 fenotip ayrışım oranı görülüyorsa, ebeveynlerin genotipleri aşağıdakilerin hangisindeki gibi olmalıdır?

	♀	♂
A)	aabb	AABB
B)	AaBb	aaBB
C)	AAbb	aaBB
D)	AaBb	AaBb

3. Kalıtımın kromozom teorisine göre aşağıdakilerden hangisi yanlıştır?

- A) Genler kromozomlar üzerinde bulunur.
B) Bir karakter iki allel gen ile ifade edilir.
C) Bir karakteri belirleyen allel genler aynı kromozom üzerinde bulunur.
D) Kromozomlar diploit hücrelerde çiftler halinde bulunmaktadır.

4. Heterozigot B kan gruplu bir anne ile AB kan gruplu bir babanın, AB kan gruplu çocuklarının olma olasılığı % kaçtır?

- A) 25 B) 50 C) 75 D) 100

5. Tavşanlarda post rengine C^R, C^{ch}, C^h, C^a olmak üzere dört farklı allel etki etmektedir. Ancak bir karakterin kaç tane alleli olursa olsun diploit canlı bu allelerden ikisine, haploit canlı ise bir tanesine sahiptir.

Bu durum aşağıdakilerden hangisi ile açıklanabilir?

- A) Eş baskınlık
B) Çok allellilik
C) Eksik baskınlık
D) Geri çaprazlama

6. İnsanda X kromozomuna bağlı ve çekinik gen tarafından meydana getirilen karekterin, kalıtımı ile ilgili olarak aşağıda verilenlerden hangisi doğrudur?

- A) X kromozomundaki genin Y kromozomunda baskın genleri olabilir.
B) Erkekler X kromozomu ile kalıtılan karakterler bakımından taşıyıcı olabilirler.
C) X kromozomunda taşınan bir karakteri fenotipinde gösteren bir dişinin, tüm erkek çocukları bu karakteri fenotiplerinde gösterir.
D) X kromozomu ile taşınan çekinik tek bir gen ile dişiler daima bu karakteri gösterir.

7. İnsanda mayoz bölünme sırasında homolog kromozomların birbirlerinden ayrılmaması sonucu oluşan anormal gametlerin, döllenmesiyle oluşan, aşağıdaki bireylerden hangisi yaşayabilir?

- A) 43+XY B) 43+XX
C) 44+YO D) 44+XO

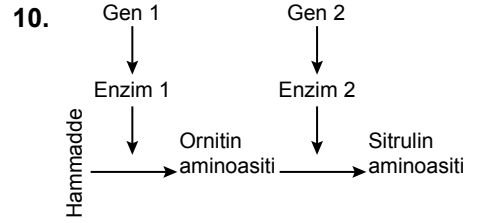
8. DNA'da I. zincirde bulunan Adenin bazının karşısına gelen II. zincirdeki organik baz, aşağıdakilerden hangisidir?

- A) Guanin B) Timin
C) Sitozin D) Urasil

9. $\begin{array}{cccccc} A & G & C & T & G & \\ \hline & | & | & | & | & \\ & \hline & | & | & | & | & \\ & \hline \end{array}$ 1. zincir
 $\begin{array}{cccccc} & & & & & \\ \hline & | & | & | & | & \\ & \hline \end{array}$ 2. zincir

Yukarıdaki DNA molekülünün 1. zincirinin anlamlı zincir olduğu transkripsiyon (yazılma) sonucunda oluşacak mRNA aşağıdakilerden hangisidir?

- A) $\begin{array}{cccccc} U & C & G & A & C & \\ \hline & | & | & | & | & \\ & \hline \end{array}$
B) $\begin{array}{cccccc} T & C & G & A & C & \\ \hline & | & | & | & | & \\ & \hline \end{array}$
C) $\begin{array}{cccccc} A & G & C & T & G & \\ \hline & | & | & | & | & \\ & \hline \end{array}$
D) $\begin{array}{cccccc} A & G & C & U & G & \\ \hline & | & | & | & | & \\ & \hline \end{array}$



Yukarıdaki tepkime dizisine göre aşağıdakilerden hangisi söylenemez?

- A) Gen 1 mutasyona uğrarsa Enzim 1 sentezlenemez.
B) Enzim 2 sentezlenemezse, ortamda Ornitinin birikir.
C) Gen 2 mutasyona uğrarsa canlının yaşamını sürdürebilmesi için sitrülin amino asiti hazır olarak verilmelidir.
D) Gen 2 mutasyona uğradığında, hücrelerde sitrülin amino asiti birikir.

11. İnsanda çevrenin etkisi ile değişmeyen karakter aşağıdakilerden hangisidir?

- A) Boy uzunluğu
B) Kan grubu
C) Ten rengi
D) Vücut ağırlığı

12. A koyununun somatik hücrelerinden izole edilerek alınan diploit çekirdek, B koyununun çekirdeksiz yumurta hücresi ile kaynaştırılır. Oluşan hücreye elektrik şoku verilerek embriyo oluşması sağlanır.

Oluşan embriyonun, C koyununun rahmine yerleştirilmesiyle gelişen yavru ile ilgili olarak aşağıdakilerden hangisi doğrudur?

- A) A koyunu ile aynı genetik özelliklere sahiptir.
B) B koyununun kopyasıdır.
C) DNA'sı C koyununun DNA'sı ile aynıdır.
D) A, B, C koyunlarından daha yüksek kalitededir.

13. Bir canlının nerede yaşadığı, ne ile beslendiği, hangi canlılar ile etkileşim içinde olduğu gibi tüm faaliyetler, aşağıdakilerden hangisiyle tanımlanır?

- A) Tür içi rekabet
B) Ekolojik niş
C) Türler arası rekabet
D) Avlanma (predasyon)

1. OTURUM

14. Aşağıdaki bitkilerden hangisi fotosentez yapamaz?

- A) Bezelye bitkisi
- B) Akşam sefası
- C) Canavar otu
- D) Ökse otu

15. Aşağıda verilen ortak yaşam örneklerinden hangisi gevşek mutualizme örnektir?

- A) Uyku hastalığına neden olan Trypanosoma ile insan
- B) Bir mantar ve bir yeşil alg arasındaki liken birlikteliği
- C) Gergedan ile onun derisi üzerindeki parazitleri yiyerek beslenen kuşlar
- D) Omurgalı hayvanlar ile bağırsaklarında yaşayan tenya

16. Birincil süksesyonda görülen ilk evre aşağıdakilerden hangisidir?

- A) Liken evresi
- B) Yosun evresi
- C) Ot evresi
- D) Ağaç evresi

17. Aşağıda hayvansal iç ve dış parazitler için verilmiş olan özelliklerden hangisi yanlıştır?

- A) İç parazitlerin sindirim sistemleri gelişmediği için konağın sindirilmiş besinlerinin olduğu vücut bölümlerinde yaşarlar.
- B) Dış parazitlerin hareket ve duyu organları gelişmiştir.
- C) Dış parazitlerin sindirim sistemleri kısmen gelişmiştir.
- D) İç parazitlerde üreme organları çok gelişmediği için üreme hızları düşüktür.

18. Popülasyonun yaşadığı çevrede, sürekli büyümesine engel olan her türlü faktöre ne ad verilir?

- A) Çevre direnci
- B) Taşıma kapasitesi
- C) Kümüli dağılım
- D) S tipi büyüme

19. Aşağıdakilerden hangisi bir popülasyonun taşıma kapasitesine yaklaştığını göstermez?

- A) Popülasyonun büyüme hızının azalması
- B) Popülasyonda yer sıkıntısının yaşanması
- C) Popülasyonda besin yetersizliği yaşanması (rekabetin artması)
- D) Popülasyonda içe göçlerin görülmesi

20. Bitki ve hayvanların geçmişte ve günümüzde yeryüzündeki dağılımlarını inceleyen bilim dalına ne ad verilir?

- A) Biyom
- B) Ekosistem
- C) Biyocoğrafya
- D) Biyoçeşitlilik

(461) EKONOMİ – 1

1. Aşağıdakilerden hangisi dolaylı tüketime örnek olur?

- A) Tatile gidilerek otelde konaklama yapılması
- B) Kumaş üretiminde yünün kullanılması
- C) Otobüste seyahat edilmesi
- D) Elbisenin giyilerek eskitilmesi

2. Aşağıdakilerden hangisi ülkemizin hidroelektrik santrallerinden biridir?

- A) Keban
- B) Tunçbilek
- C) Seyitömer
- D) Yatağan

3. Amacı mal veya hizmet üretmek olmayan faaliyetler ekonomide emek kabul edilmezler.

Buna göre aşağıdaki örnek faaliyetlerden hangisi gerçek anlamda bir emek değildir?

- A) Sporculuğu meslek olarak yapmak
- B) Konaklama işletmesinde çalışmak
- C) Zevk için dağ sporu yapmak
- D) Taksi şoförlüğü yapmak

4. Özel sektörün yetersiz kalması sonucu, ekonomik alanda belirli bir dönem ülkemizde uygulanan Atatürk ilkesi aşağıdakilerden hangisidir?

- A) Halkçılık
- B) Devletçilik
- C) Milliyetçilik
- D) Cumhuriyetçilik

5. Pirinç fiyatlarının aşırı yükselmesiyle tüketicilerin bulgulara daha fazla yönelmeleri aşağıdakilerden hangisine örnek olur?

- A) Fizyolojik ihtiyaçların kapsam bakımından sınırlı olmasına
- B) İhtiyaçların kişiden kişiye değişken olmasına
- C) İhtiyaçların birbirinin yerine geçmesine
- D) İhtiyaçların sınırsız olmasına

6. Ülkemizde aşağıdaki sektörlerden hangisinde tekel durumu vardır?

- A) Şeker üretimi
- B) Çay üretimi
- C) Deniz yolu ulaşımı
- D) Demir yolu ulaşımı

7. Maden rantını ortaya çıkaran asıl etken aşağıdakilerden hangisidir?

- A) Büyüklük
- B) Kalite
- C) Fiyat
- D) Maliyet

8. Türkiye'de millî gelir hesaplamaları 1927 yılında hangi yöntemle başlamıştır?

- A) Harcama
- B) Tahmini
- C) Üretim
- D) Gelir

9. Kişilerin millî gelirin oluşumuna katılmasının karşılığı olarak aldığı ve ekonomik gücünü artırdığı para veya para ile ifade edilebilen değerlere ne denir?

- A) Gelir
- B) Ücret
- C) Rant
- D) Kâr

1. OTURUM

10. Aşağıdaki tanımlardan hangisi mübadeleyi ifade etmektedir?

- A) Malların insanlar arasında el değiştirmesidir.
- B) Mal ve hizmetlerin elde edilmesi faaliyetidir.
- C) İhtiyaçların karşılanması için malların tüketilmesidir.
- D) Üretim faaliyeti sonucu elde edilen gelirin dağıtımıdır.

11. Kooperatiflerin genel ve asıl amacı aşağıdakilerden hangisidir?

- A) Dar gelirliyle yardım etmek
- B) Kâr elde ederek devlete vergi vermek
- C) İnsanların konut sahibi olmalarını sağlamak
- D) Ortaklarının ekonomik ihtiyaçlarını karşılamak

12. Aşağıdakilerden hangisi bir ülkenin ekonomi politikasının başlıca hedeflerinden olamaz?

- A) Tam istihdam sağlamak
- B) Ekonomik dengeyi sağlamak
- C) Yüksek enflasyonu gerçekleştirmek
- D) Büyüme ve kalkınmayı gerçekleştirmek

13. İhtiyaçları karşılanmalarındaki şiddet derecesine göre sınıflandırdığımızda, aşağıdakilerden hangisi lüks ihtiyaçlara örnek olur?

- A) Giyecek
- B) Ekmek
- C) Su
- D) Otomobil

14. Gelirin özelliklerine göre aşağıdakilerden hangisi ekonomide gelir kabul edilmez?

- A) Ücret
- B) Faiz
- C) Bağış
- D) Kâr

15. Aşağıdakilerden hangisi ülkemizin termik santrallerinden biridir?

- A) Soma
- B) Keban
- C) Hirfanlı
- D) Sarıyar

16. Ülkelerarası millî gelirin karşılaştırılması hangi para birimi ile yapılmaktadır?

- A) İngiliz Sterlini
- B) Rus Rublesi
- C) Japon Yeni
- D) ABD Doları

17. Millî gelirin ülke nüfusuna bölünmesiyle aşağıdakilerden hangisi bulunur?

- A) Safi millî gelir
- B) Gayrisafi yurt içi hasılası
- C) Kişi başına düşen millî gelir
- D) Millî gelirdeki ücretlerin payı

18. Hızlı nüfus artışı ülkemizde hangi ekonomik soruna neden olmaktadır?

- A) İşsizliğe
- B) Enflasyona
- C) Dış borçlara
- D) Verim düşüklüğüne

19. Aşağıdakilerden hangisi mal ve hizmet fiyatının oluşumunda doğrudan etkilidir?

- A) Arz ve talep
- B) Kalite ve marka
- C) Belirli bir piyasa
- D) Satın alma gücü

20. Faiz üretim faktörlerinden hangisinin geliridir?

- A) Girişimcinin
- B) Sermayenin
- C) Tabiatın
- D) Emeğin

(465) TEMEL DİNİ BİL. – 1

1. Aşağıdakilerden hangisi dini oluşturan temel unsurlardan biri değildir?

- A) Ekonomi
- B) İbadet
- C) Ahlak
- D) İman

2. • Her doğan çocuk fitrat (inanma duygusu) üzerine doğar.
(Hadis-i Şerif)
• Yeryüzünde evi olmayan, giysisi olmayan insanlar görebilirsiniz ama inancı olmayan topluluk göremezsiniz.

Bu bilgiler birlikte değerlendirildiğinde çıkarılabilecek en kapsamlı sonuç aşağıdakilerden hangisidir?

- A) Yeni doğan çocukların sorumlulukları yoktur.
- B) İnanmak, insanın en önemli ihtiyaçlarındandır.
- C) Çok tanrılı dinler sonradan ortaya çıkmıştır.
- D) İnanmak, zengin fakir ayrımı kabul etmez.

3. Vahye dayalı dinlere en yakın olan inanma biçimi aşağıdakilerden hangisidir?

- A) Gnostisizm
- B) Politeizm
- C) Monoteizm
- D) Agnostisizm

4. Tanrının varlığının ya da yokluğunun bilinemeyeceğini savunan inanç biçimi aşağıdakilerden hangisidir?

- A) Ateizm
- B) Politeizm
- C) Gnostisizm
- D) Agnostisizm

5. Aşağıdakilerden hangisi dinin insana sağladığı faydalardan biri değildir?

- A) İmanı kuvvetlendirir.
- B) Davranışları güzelleştirir.
- C) Maddi ihtiyaçları karşılar.
- D) Anlam arayışına cevap verir.

1. OTURUM

6. Kabile dinleri ile ilgili aşağıda verilenlerden hangisi yanlıştır?

- A) Büyücülük yaygındır.
- B) Kutsal kitapları vardır.
- C) Kurucuları belli değildir.
- D) Belli bir bölgeye aittirler.

7. • Kast sistemi vardır.
• Karma, Reenkarnasyon, Hulûl başlıca kavramlarıdır.
• Brahma, Vişnu, Şiva önemli tanrılarıdır.

Hakkında bilgi verilen din aşağıdakilerden hangisidir?

- A) Sihizm
- B) Budizm
- C) Hinduizm
- D) Şintoizm

8. Hz. Muhammed (sav.)'in "İman nedir?" sorusuna verdiği cevapta aşağıdakilerden hangisi yer almaz?

- A) Namaz kılmak
- B) Ahirete inanmak
- C) Kitaplara inanmak
- D) Meleklerle inanmak

9. Aşağıdakilerden hangisi Allah'ın subuti sıfatlarından biridir?

- A) İrade
- B) Beka
- C) Kıdem
- D) Vücut

10. Meleklerin özellikleri arasında aşağıdakilerden hangisi yer almaz?

- A) Günah işlemezler.
- B) Çok hızlı hareket ederler.
- C) Yaşlanmaları çok geç olur.
- D) İkişer, üçer, dörder, kanatları vardır.

11. Allah rızası için yapılan her türlü iyi, güzel ve faydalı olan davranış anlamına gelen kavram aşağıdakilerden hangisidir?

- A) İhsan
- B) İstişare
- C) Salih Amel
- D) Tevekkül

12. Aşağıdakilerden hangisi hem mal, hem de beden ile yapılan bir ibadettir?

- A) Hac
- B) Oruç
- C) Zekât
- D) Namaz

13. İbadet ile ilgili aşağıda verilenlerden hangisi yanlıştır?

- A) Allah'ın verdiği nimetler karşısında teşekkürü ifade eder.
- B) Her insan kendi isteğiyle yapılmalıdır.
- C) Dünyadaki mutluluğa etkisi olmaz.
- D) Allah'ın huzurunda olmanın heyecanını hissettirir.

14. Temizlik - ibadet ilişkisi hakkında aşağıdakilerden hangisi söylenemez?

- A) Namaz kılmak için temizlik şarttır.
- B) Su bulunmadığı zaman teyemmüm abdesti ile temizlenilir.
- C) Temizliğin çeşitleri; beden, elbise ve çevredir.
- D) Temizlik sadece namaz için gereklidir.

15. Namazın vacipleri arasında aşağıdakilerden hangisi yoktur?

- A) Sübhaneke duasını okumak
- B) Namazın sonunda selam vermek
- C) Her rekatta Fatıha suresini okumak
- D) Namaza Allahu Ekber diyerek başlamak

16. Aşağıdakilerden hangisi farz bir namazdır?

- A) Vitir namazı
- B) Bayram namazı
- C) Teravih namazı
- D) Cuma namazı

17. Aşağıdakilerden hangisi oruç ibadeti ile ilgili bir kavram değildir?

- A) İmsak
- B) Nisap
- C) Fidye
- D) İftar

18. Zekat ile ilgili aşağıdakilerden hangisi yanlıştır?

- A) Zengin Müslümanlara farzdır.
- B) Amca, dayı, teyze ve halaya zekat verilemez.
- C) Ticaret mallarının zekat oranı 1/40'tir.
- D) Zekât vermek için sağlıklı olmak gerekmez.

19. Aşağıdakilerden hangisi ibadetlerin faydalarından biri değildir?

- A) Ruhu ferahlatır.
- B) İmanı kuvvetlendirir.
- C) Kötülüklerden uzaklaştırır.
- D) Cehennemden emin kılar.

20. Kâbe'nin etrafında yedi defa dönmeye ne ad verilir?

- A) Şavt
- B) Vakfe
- C) Mikat
- D) Tavaf

(477) İŞLETME – 2

1. Aşağıdakilerden hangisi yönetimin özelliklerinden biridir?

- A) Yönetim, bir yetki faaliyetidir.
- B) Yönetim, tek kişi faaliyetidir.
- C) Yönetimde, yönetilenler karar verir.
- D) Yönetim, tek yönlü bir faaliyettir.

2. Aşağıdakilerden hangisi Klasik Yönetim Teorisi'nde etkinlik ve verimliliğinin artırılması için uyulması gereken ilkelerden değildir?

- A) İş bölümü ve uzmanlaşma
- B) Denetim alanı
- C) Hiyerarşik yapı
- D) Yapı ve insan davranışları

3. • Bir karar sürecidir.
• İşletme için en uygun olanın seçilmesi sürecidir.
• Geleceğe yönelik bir süreçtir.

Yukarıda verilen özellikler, aşağıdaki yönetim fonksiyonlarından hangisine aittir?

- A) Koordinasyon
- B) Yönelme (Yürütme)
- C) Planlama
- D) Denetim

4. İşletmenin amaçlarına ulaşım ulaşılamadığının ya da ne ölçüde ulaşıldığının belirlenip, gerektiğinde düzeltici önlemlerin alınması süreci hangi yönetim fonksiyonuna aittir?

- A) Planlama
- B) Denetim
- C) Koordinasyon
- D) Yönelme (Yürütme)

1. OTURUM

5. İşletmenin ihtiyaç duyduğu fonların en uygun koşullarda sağlanması ve bu fonların en etkin bir şekilde kullanılmasıyla ilgili faaliyetlere ne denir?
- A) Finans
B) Finansman
C) Finansman fonksiyonu
D) Finansal yönetim
6. Tüketicilerin üretilen malı satın almasının pazarlama açısından sağladığı fayda aşağıdakilerden hangisidir?
- A) Şekil
B) Yer
C) Zaman
D) Mülkiyet
7. İşletmeler, aşağıdaki tutundurma faaliyetlerinden hangisini kullanmayı en çok tercih eder?
- A) Reklam
B) Kişisel satış
C) Halkla ilişkiler
D) Satış teşvik (promosyon)
8. Bazı işletmelerin toptancı yerine acenta veya komisyoncu vasıtasıyla büyük perakendecilere ulaşmayı tercih ettikleri dağıtım şeklinin doğru sıralanışı aşağıdakilerden hangisidir?
- A) Tüketici → Acenta → Perakendeci → Üretici
B) Üretici → Acenta → Perakendeci → Tüketici
C) Tüketici → Acenta → Üretici → Perakendeci
D) Üretici → Tüketici → Acenta → Perakendeci
9. İşletmelerin üretimde kullanmak için aldıkları her türlü maddi ve maddi olmayan değerler, üretimin hangi temel ögesini oluşturur?
- A) Girdi
B) İşlem
C) Çıktı
D) Geri Bildirim
10. Stokların işletme içinde yer alan depo memurları tarafından deneyime dayalı olarak gözden geçirildiği stok kontrol yöntemi aşağıdakilerden hangisidir?
- A) ABC yöntemi
B) Sabit sipariş miktarı yöntemi
C) Gözle kontrol yöntemi
D) Stoksuz malzeme yönetim sistemi
11. Aşağıdakilerden hangisi Anadolu Ahilik kültüründe Ahi'nin özelliklerinden değildir?
- A) Vicdanını kendi üzerine gözcü koyar.
B) Helal kazanç sağlar.
C) Yerine ve yeterince harcar.
D) Ölçü ve tartıyı kendi isteğine göre ayarlar.
12. İşletmeye başvuran kişide, işletmenin aradığı özelliklerin bulunup bulunmadığını belirlemek için yüz yüze yapılan görüşmeye ne ad verilir?
- A) Mülakat
B) Zeka testi
C) Kabiliyet testi
D) İlgi testi
13. Aşağıdakilerden hangisi performans değerlendirmenin amaçlarından biri değildir?
- A) Yönetici ve çalışan arasındaki iletişimi geliştirmek
B) Performansı geliştirmek, pekiştirmek
C) Personelin iş motivasyonunu ve verimini arttırmak
D) İyileştirme için oluşan fikirleri engellemek
14. Aşağıdakilerden hangisi bir işletmede oryantasyon eğitiminde verilen bilgilerden değildir?
- A) İşletmenin tanıtımı
B) Tanıştırma
C) Amirlerin siyasi görüşleri
D) İşle ilgili bilgilerin aktarımı
15. Hizmet içi eğitimi kapsamında işletme personeline yönelik düzenlenen iş dışı eğitimin avantajları ile ilgili olarak aşağıdakilerden hangisi yanlıştır?
- A) Personelin öğrenme isteğini artırır.
B) Disiplini azaltır.
C) Eğitim bilincini geliştirir.
D) Teorik bilgileri öğretmek daha kolaydır.
16. Aşağıdakilerden hangisi işletmelerin AR-GE faaliyetlerine önem vermelerinin temel nedenlerin değildir?
- A) Sosyal nedenler
B) Örgütsel nedenler
C) Sanatsal nedenler
D) Pazarla ilgili nedenler
17. Çalışanın, herhangi bir sebepten dolayı işletmeden ayrılması durumunda işletme tarafından aşağıdakilerden hangisinin ödenmesi zorunludur?
- A) Kıdem tazminatı
B) Asıl ücret
C) İhbar ücreti
D) Maaş
18. Aşağıdakilerden hangisi yenilenemez doğal kaynaklardan biridir?
- A) Toprak
B) Rüzgar
C) Güneş
D) Kömür
19. Aşağıdakilerden hangisi standartlaşmanın tüketiciye sağladığı yararlardan biridir?
- A) Pahalılığa yol açar.
B) Alıcıları kalite yönünden aldatır.
C) Malları karşılaştırma ve seçme kolaylığı sağlar.
D) Tüketicinin can ve mal güvenliğini korumaz.

1. OTURUM

20. Bir işletmenin toplumun istediği ve ihtiyaç duyduğu mal ve hizmetleri kaliteli bir şekilde üreterek işletmenin sürekliliğini sağlayacak ve yatırımcılara karşı sorumluluklarını yerine getirecek bir fiyatta sunması aşağıdaki sorumluluklardan hangisini yerine getirdiğinin bir göstergesidir?

- A) Gönüllü sorumluluğu
B) Ekonomik sorumluluğu
C) Hukuksal sorumluluğu
D) Kültürel sorumluluğu

(479) MANTIK – 2

1. Mantık unsurlarını sembollerle ifade eden ve bu sembollerle işlemler yaparak sağlam çıkarımlara ulaşmayı amaçlayan mantık sistemi aşağıdakilerden hangisidir?

- A) Klasik mantık
B) Modern mantık
C) Aristo mantığı
D) Uygulamalı mantık

2. Günlük dilde “ve”, “ne...ne de”, “hem...hem de” gibi sözcüklerle ifade edilen tümel evetleme ekleminin sembolü hangisidir?

- A) \wedge B) \vee C) \Leftrightarrow D) \sim

3. $\sim (p \vee q) \wedge (p \Rightarrow r)$ önermesinin ana eklemi hangisidir?

- A) \sim B) \vee C) \wedge D) \Rightarrow

4. “Çocuk annesine ve babasına itaat ederse mutlu olur” önermesinin önermeler mantığındaki sembolik ifadesi hangisidir?

- A) $\sim p \vee q$ B) $p \wedge q \Leftrightarrow r$
C) $p \vee q \Rightarrow r$ D) $p \wedge q \Rightarrow r$

5. Aşağıdakilerden hangisi birden fazla önermeyi birleştiren önerme eklemlerindedir?

- A) Bütün B) Hiçbiri
C) Veya D) Bazı

6. Aşağıdaki p ve q önermelerinden hangisi eşdeğer değildir?

- A) $\frac{p|q}{D|D}$ B) $\frac{p|q}{D|D}$
C) $\frac{p|q}{Y|Y}$ D) $\frac{p|q}{Y|D}$

7. $p \vee q$ Yanda tümel evetleme önermesinin çözümleyici çizelgede çözümleme kuralı verilmiştir.

Buna göre “ $p \vee q \vee r$ ” önermesinin çözümleyici çizelgede çözülmesi aşağıdakilerden hangisidir?

- A) $p \vee q \vee r$ B) $p \vee q \vee r$
C) $p \vee q \vee r$ D) $p \vee q \vee r$

8. Bir önermenin geçerli olması için o önermenin - - - - .

Yukarıdaki noktalı yere hangisi getirilmelidir?

- A) tüm yorumlamalarının yanlış değer almış olması gerekir
B) tüm yorumlamalarının doğru değer almış olması gerekir
C) en az bir yorumunun doğru değer almış olması gerekir
D) en az bir yorumunun yanlış değer almış olması gerekir

9. Aşağıdakilerden hangisi bileşik bir önermedir?

- A) Konya Türkiye'nin en büyük şehridir.
B) Tahir temizdir.
C) İnsanlar, hayvanlar ve bitkiler yaratılmıştır.
D) Öğretmenler çalışkandır.

10. Niceleme mantığında tümel niceleyicinin sembolü aşağıdakilerden hangisidir?

- A) \forall B) \exists C) \therefore D) \diamond

11. İçinde değişken bulunan önermelere açık önerme denir.

Aşağıdakilerden hangisi açık önermedir?

- A) Hatice annedir.
B) Dokuz tek sayıdır.
C) $4+3=7$
D) $y-2=7$

12. Evren = {Ankara, Bağdat, Mekke}

Aşağıdaki açık önermelerden hangisi verilen evrende doğrudur?

- A) $\forall x$ (x ülkedir)
B) $\forall x$ (x bölgedir)
C) $\forall x$ (x kıtadır)
D) $\forall x$ (x şehirdir)

13. “Deniz çalışkan değildir.” önermesinin niceleme mantığındaki sembolik ifadesi aşağıdakilerden hangisidir?

- A) $\sim p \vee q$ B) $\sim Fa$
C) $\forall x Fa$ D) Fab

14. Bir önermenin “doğru”, “yanlış” ve “belirsiz” değerlerini aldığı mantık sistemi aşağıdakilerden hangisidir?

- A) Varlık mantığı
B) Özdeşlik mantığı
C) Üç değerli mantık
D) Kiplik mantığı

15. I. Her çocuk bir umuttur.
II. Ankara Türkiye'nin başkentidir.
III. Kelaynak kuşu vardır.
IV. x, z'ye eşittir.

Yukarıda verilen önermelerden hangileri özdeşlik önermesidir.

- A) I ve II B) II ve III
C) II ve IV D) III ve IV

1. OTURUM

(484) SAĞLIK BİLGİSİ – 2

16. Formel (biçimsel) bilimlerin hangisinde birlikte verilmiştir?

- A) Mantık - Kimya
- B) Matematik - Mantık
- C) Matematik - Fizik
- D) Fizik - Kimya

17. Mantıkla ilgili aşağıdaki yargılardan hangisi yanlıştır?

- A) Doğa bilimlerinde, deneysel yöntemle açıklamada ve bilgileri doğrulama ile gerçeklik kazandırma işlemlerinde mantık dilinden yararlanılır.
- B) Mantık kurallarına aykırı hareket ederek de doğru sonuçlara ulaşmak mümkündür.
- C) Hangi alanda çalışılırsa çalışılsın mantık kurallarına ilgisiz kalmak mümkün değildir.
- D) Modern matematiğin temelinde sembolik mantık vardır.

18. Verilen bir dildeki yeni değişimin anlamını, dilde var olan değişmezler yardımıyla belirleme işlemi aşağıdaki hangi kavramla adlandırılır?

- A) Tanım
- B) Teorem
- C) Aksiyom
- D) Özdeşlik

19. Mantığın anlamı, ilke ve temel kavramlarıyla ilgili sorunları ele alan felsefe dalı hangisidir?

- A) Bilim felsefesi
- B) Varlık felsefesi
- C) Bilgi felsefesi
- D) Mantık felsefesi

20. Aşağıdakilerden hangisi mantık felsefesinin ele aldığı konulardan değildir?

- A) Doğruluk değeri ve varlık kavramı
- B) Mantık değişmezleriyle ilgili sorunlar
- C) Doğa olaylarının nedenleri
- D) Geçerlilik kavramıyla ilgili sorunlar

1. Aşağıdakilerden hangisi çekirdek ailenin bireyidir?

- A) Evlenmiş hala
- B) Evlenmiş çocuklar
- C) Evlenmemiş çocuklar
- D) Evlenmemiş dayı

2. Aşağıdakilerden hangisi eş seçimi kararında ilk adımdır?

- A) Eş adayının kişilik özelliklerini tanımak
- B) Eş adayının ailesini tanımak
- C) Kendi kişilik özelliklerini tanımak ve farkında olmak
- D) Toplumsal bakış açılarını dikkate almak

3. I. Çocuk sayısını belirlemek
II. Doğumlar arasındaki aralığı belirlemek
III. İstenmeyen gebelikleri sonlandırmak

Aile planlaması uygulamalarının amacı yukarıdakilerden hangileridir?

- A) I ve II
- B) I ve III
- C) II ve III
- D) I, II ve III

4. Aşağıdakilerden hangisi ülkemizde çocuklara 1 yaşına gelinceye kadar, aşı takvimine göre düzenli olarak uygulanan aşılarından değildir?

- A) BCG
- B) DBT
- C) Hepatit B
- D) Kuduz aşısı

5. İnsanlarda normal gebelik süresi ortalama kaç gündür?

- A) 280
- B) 260
- C) 240
- D) 220

6. Aşağıdakilerden hangisi erken doğum sancularına neden olmaz?

- A) Annenin rahim yapısının kusurları
- B) Annenin yeterli ve dengeli beslenmesi
- C) Annenin ciddi bir hastalığının olması
- D) Bebeğin anne karnında ölümü

7. Aşağıdakilerden hangisi lohusalık dönemindeki annede gerçekleşmez?

- A) Rahim küçülür.
- B) Süt salgılaması durur.
- C) Adet kanamasına benzer bir kanama görülür.
- D) Gebelikte oluşan tüm değişiklikler gebelik öncesine döner.

8. Aşağıdakilerden hangisi ülkemizde çocukluk çağında görülen bulaşıcı hastalıklardandır?

- A) Kanser
- B) Tansiyon
- C) Boğmaca
- D) Böbrek yetmezliği

9. Anne, baba ve bebeğin kan grubu aşağıdakilerden hangisi gibi olduğunda kan uyuşmazlığı görülebilir?

	Anne	Baba	Bebek
A)	Rh pozitif	Rh negatif	Rh pozitif
B)	Rh negatif	Rh pozitif	Rh pozitif
C)	Rh negatif	Rh negatif	Rh negatif
D)	Rh pozitif	Rh pozitif	Rh negatif

10. Normal gelişim gösteren bir çocuk "baba", "anne", "mama" gibi iki heceli sözcükleri ilk olarak gelişim döneminin kaçınıc ayında söyleyebilir?

- A) 3.
- B) 9.
- C) 12.
- D) 24.

1. OTURUM

11. Aşağıdakilerden hangisi hastalık oluşumuna neden olan be- densel sebeplerden değildir?

- A) Hormonal
- B) Kalıtsal
- C) Metabolik kökenli
- D) Mikroorganizmalar

12. Bir bulaşıcı hastalık etkeninin vücuda girmesiyle hastalığın ortaya çıkmasına kadar geçen süreye ne denir?

- A) Kuluçka süresi
- B) Bulaşma süresi
- C) Salgın hastalık
- D) Enfeksiyon hastalığı

13. I. Mikroorganizmanın virülansı (hastalık yapma yeteneği)
II. Organizmaya giren mikroor- ganizma miktarı (enfeksiyon dozu)
III. Konağın duyarlılığı (konağın bağışıklık durumu)

Yukarıdakilerden hangileri en- feksiyon oluşumunu belirleyen en önemli faktörlerdendir?

- A) I ve II
- B) I ve III
- C) II ve III
- D) I, II ve III

14. Karadeniz Bölgesinde guar hastalığı her yıl yaklaşık olarak aynı sayıda kişide görülmektedir.

Bu durum aşağıdakilerden han- gisi ile ifade edilir?

- A) Pandemi
- B) Epidemik
- C) Endemik hastalık
- D) Bulaşıcı hastalık

15. I. Uygun ısı
II. Nem
III. Besin

Yukarıda verilenlerden han- gilerinin bulunduğu ortamda mikroorganizmalar çoğalarak sayıları hızla artar?

- A) I ve II
- B) I ve III
- C) II ve III
- D) I, II ve III

16. Aşağıdaki hastalıklardan hangi- sinde salgın oluşmaz?

- A) Grip
- B) Tifo
- C) Tetanos
- D) Kolera

17. Sağlıklı insanlarda aşağıdaki- lerden hangisi vücut ısısının normal değerinden aşağıya düşmesine neden olur?

- A) Egzersiz yapmak
- B) Gece uyumak
- C) Sıkı giyinmek
- D) Sıcak içecekler içmek

18. Kalp-damar sisteminin yaşam- sal organları, uygun oranda kanlandırılmaması nedeniyle ortaya çıkan ve tansiyon dü- şüklüğü ile seyreden dolaşım yetmezliğine ne denir?

- A) Şok
- B) Koma
- C) Bayılma
- D) Boğulma

19. Yüksek derecede ısı ve nem nedeniyle vücut ısısının ayarla- namaması sonucu ortaya çıkan bozukluklara ne ad verilir?

- A) Sıcak çarpması
- B) Solunum durması
- C) Zehirlenme
- D) Yaralanma

20. Doku ve organ nakillerinde, hastanın aşağıdaki durumların- dan hangisi göz önünde bulun- durulur?

- A) Irkı
- B) Cinsiyeti
- C) Zengin - fakir olması
- D) Tıbbi aciliyet durumu

(491) TRAF. VE İLK YARD. – 1

1. Ülkemizde, her yıl yaklaşık olarak beş bin kişinin hayatını kaybettiği ve bu rakamın iki katı kadar da yaralanma olayının gerçekleştiği trafik kazalarının önünün kesil- mesindeki en büyük etken aşağı- dakilerden hangisidir?

- A) Otomotiv sanayisindeki geliş- melerin takip edilmesi
- B) Bireylerde trafik kültürü ve bi- lincinin oluşturulması
- C) Trafik suçlarına uygulanan ce- zaların artırılması
- D) Taşıt bakımlarının zamanında yaptırılması

2. Taşıt yolunun her iki yöndeki taşıt trafiği için kullanıldığı kara yoluna ne ad verilir?

- A) İki yönlü kara yolu
- B) Tek yönlü kara yolu
- C) Bölünmüş kara yolu
- D) Erişme kontrollü kara yolu

3. Sürücülerin iniş eğimli bir yol- da aşağıdakilerden hangisini yapması yasaktır?

- A) Düşük hızla seyretmesi
- B) Çıkışta kullandığı vitesle inmesi
- C) Hız azaltmak için frene basması
- D) Motorun çalışmasını durdurup, vitesi boşa alarak inmesi

4. Aşağıdakilerden hangisi, ted- birsiz ve saygısız araç sürmeye örnek değildir?

- A) Aşırı hızdan kaçınmak
- B) Korkutmak veya şaşırtmak
- C) Su, çamur ve benzerlerini sıç- ratmak
- D) Sigara külü ve izmaritlerini veya başka şeyleri yola atıp dökmek

5. • Hareket hâlindeki taşıta asılmak
• Duran aracın önünden veya arkasından çıkmak

Yukarıda verilenlerin yapılması, trafik kazalarında rol oynayan faktörlerden hangisinin içinde değerlendirilir?

- A) Araç kusurları
- B) Yaya kusurları
- C) Yolcu kusurları
- D) Sürücü kusurları

1. OTURUM

6. Kara yollarında hareket halinde bulunan her araç çıkardığı gürültü, egzoz gazı, yağ ve yakıt sızıntısı ile çevreyi kirletici bir faktördür.

Buna göre aşağıdakilerden hangisinin yapılması, araçların çevre üzerindeki **olumsuz** etkisini **en aza** indirir?

- A) Araca gereğinden fazla yük yüklenmesi
B) Uzun süreli duraklama ve park sırasında motorun çalışır hâlde tutulması
C) Araç bakımlarının zamanında ve tam olarak yaptırılmasına özen gösterilmesi
D) Bakım sırasında çıkan eski parça ve malzemelerin çevreye bilinçsizce bırakılması

7. Tablodaki 2010 yılında ülkemizde meydana gelen trafik kazalarının sonuçlarına ait istatistikler görülmektedir.

I	Ölü sayısı	4.045
II	Yaralı sayısı	211.496
III	Hasar (TL)	593.647.946

Bu sonuçlardan hangileri, ülkemizin ekonomisini **olumsuz** yönde etkiler?

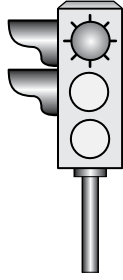
- A) Yalnız I
B) I ve II
C) II ve III
D) I, II ve III

8. Trafik görevlisinin geceleyin ışıklı işaret çubuğunu şekildeki gibi hareket ettirmesinin sürücüler için anlamı nedir?




- A) Hızlandırma işareti
B) Yavaşlatma işareti
C) Geç işareti
D) Dur işareti

9. Aksine bir durum yoksa, şekildeki gibi ışıklı trafik işaret cihazında kırmızı ışığın yandığını gören sürücü ne yapmalıdır?



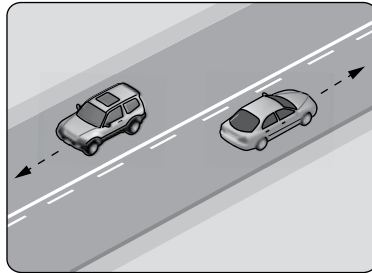
- A) Durup beklemeli
B) Durmadan geçmeli
C) Gelen araç yoksa dikkatli geçmeli
D) Yayalar geçebileceği için yavaş gitmeli

10. Şekildeki trafik işaretinin anlamı nedir?



- A) İleri mecburi yön
B) Girişi olmayan yol
C) Geçme yasağı sonu
D) Hız sınırlaması sonu

- 11.



Şekildeki kara yolu bölümünde, yan yana çizilmiş kesik ve devamlı yol çizgileri sürücülere aşağıdakilerden hangisini bildirir?

- A) İki şeritli yolun tek şeritli yola dönüşeceğini
B) Çift yönlü yoldan tek yönlü yola girileceğini
C) Devamlı çizgi tarafındaki araçların şerit değiştirebileceğini
D) Kesik çizgi tarafındaki araçların şerit değiştirebileceğini

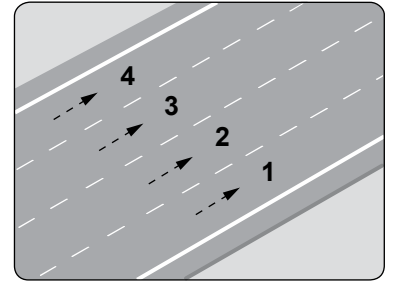
12. Bir kaza anında, başta kafa ve göğüs yaralanmaları olmak üzere olası bazı yaralanma türlerine karşı geliştirilmiş, seyir esnasında takılması zorunlu olan koruyucu düzenek aşağıdakilerden hangisidir?

- A) Takograf
B) Çekme halatı
C) Emniyet kemeri
D) Boyun korsesi

13. Aşağıdakilerden hangisi, güvenli yolculuk için alınması gereken önlemlerden biri **değildir**?

- A) İçkili olarak araç kullanılması
B) Sürüş öncesi düzenli ve yeterli uyku uyuması
C) Trafik yoğunluğu düşük olan alternatif güzergâhların seçilmesi
D) Seyahatlerde özel araçlar yerine toplu taşıma araçlarının tercih edilmesi

14. Şekle göre hangi numaralı şerit sürekli işgal edilemez?



- A) 1 B) 2 C) 3 D) 4

15. Aksine bir işaret yoksa, yerleşim yeri dışındaki **şehirler arası çift yönlü** kara yollarında otomobiller için **azami** hız sınırı saatte kaç kilometredir?

- A) 50 B) 70 C) 80 D) 90

16. Önündeki aracı 80 km/saat hızla takip eden bir sürücü, arada **en az** kaç metre mesafe bırakmalıdır?

- A) 20 B) 30 C) 40 D) 50

1. OTURUM

(495) GEOMETRİ – 5

17. Aşağıdakilerden hangisi, sürücülerin önlerinde giden bir aracı geçme kurallarındandır?

- A) Geçiş, geçilen araçlar için bir güçlük oluşturmayacak şekilde yapılır.
- B) Geçiş için görüş yetersizliği olan tepe üstü ve dönemeçler seçilir.
- C) Yaya ve okul geçitlerine yaklaşırken geçme yapılır.
- D) Geçme, geçilecek aracın sağındaki şeritten yapılır.

18. I. İtfaiye araçları
II. Toplu taşıma araçları
III. Yaralı ve acil hasta taşıyan araçlar

Verilenlerden hangileri, geçiş üstünlüğüne sahip araçlardır?

- A) Yalnız I
- B) I ve II
- C) I ve III
- D) I, II ve III

19. I. Taşıt yolu üzerinde araçların sol kapılarında yolcu indirip bindirmek yasaktır.
II. Araç sürücüleri araçlarını, gidiş yönlerine göre yolun en sağ kenarında durdurarak, yolcularını sağ taraftan indirmek ve bindirmek zorundadır.

Yukarıda yolcu bindirme ve indirme kurallarıyla ilgili olarak verilenler için ne söylenebilir?

- A) Yalnız I doğru
- B) Yalnız II doğru
- C) Her ikisi de doğru
- D) Her ikisi de yanlış

20. Aşağıdakilerden hangisi emniyet araçlarına takılan plakadır?

A) 

B) 

C) 

D) 

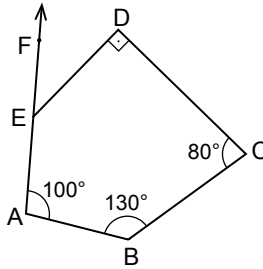
1. Düzgün sekizgenin bir dış açısının ölçüsü kaç derecedir?

- A) 30
- B) 45
- C) 55
- D) 60

2. Köşegen sayısı kenar sayısının dört katı olan düzgün çokgen kaç kenarlıdır?

- A) 7
- B) 8
- C) 11
- D) 14

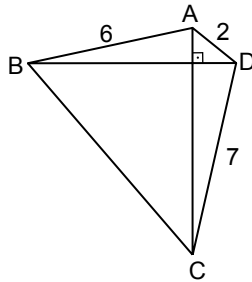
3.



Şekilde ABCDE beşgen, A, E, F noktaları doğrusal ve $[CD] \perp [DE]$ 'tir. $m(\widehat{EAB}) = 100^\circ$, $m(\widehat{ABC}) = 130^\circ$ ve $m(\widehat{BCD}) = 80^\circ$ olduğuna göre, $m(\widehat{FED})$ kaç derecedir?

- A) 40
- B) 45
- C) 50
- D) 60

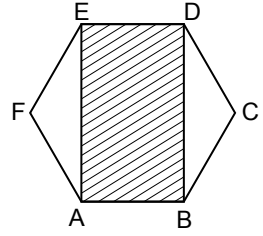
4.



ABCD dörtgeninde $[AC] \perp [BD]$ 'tir. $|AB| = 6$ cm, $|AD| = 2$ cm ve $|DC| = 7$ cm olduğuna göre, $|BC|$ kaç santimetredir?

- A) 9
- B) 8
- C) 7
- D) 6

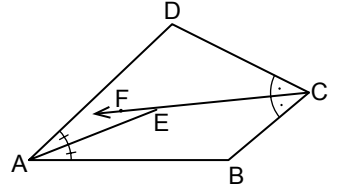
5.



ABCDEF düzgün altıgeninin çevresi 54 cm olduğuna göre, A(ABDE) kaç santimetrekaredir?

- A) $127\sqrt{3}$
- B) $81\sqrt{3}$
- C) $54\sqrt{3}$
- D) $27\sqrt{3}$

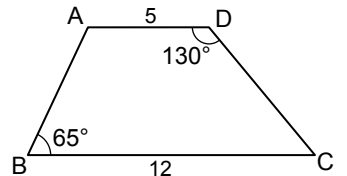
6.



Şekildeki ABCD dörtgeninde; $[AE]$, \widehat{DAB} 'nın ve $[CF]$, \widehat{DCB} 'nin açıortaylarıdır. $m(\widehat{ADC}) = 110^\circ$ ve $m(\widehat{CBA}) = 140^\circ$ olduğuna göre, $m(\widehat{AEC})$ kaç derecedir?

- A) 135
- B) 145
- C) 155
- D) 165

7.

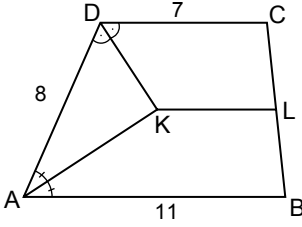


ABCD yamuğunda $[AD] \parallel [BC]$ 'dir. $m(\widehat{CDA}) = 130^\circ$, $m(\widehat{ABC}) = 65^\circ$, $|AD| = 5$ cm ve $|BC| = 12$ cm olduğuna göre, $|DC|$ kaç santimetredir?

- A) 3
- B) 5
- C) 7
- D) 9

1. OTURUM

8.

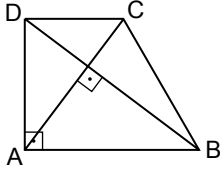


Şekildeki ABCD yamuğunda, $[DC] \parallel [KL] \parallel [AB]$ 'dir.

$[DK]$, \widehat{ADC} 'nin ve $[AK]$, \widehat{DAB} 'nin açıortaylarıdır. $|AB| = 11$ cm, $|DC| = 7$ cm ve $|AD| = 8$ cm olduğuna göre, $|KL|$ kaç santimetredir?

- A) 3 B) 4 C) 5 D) 6

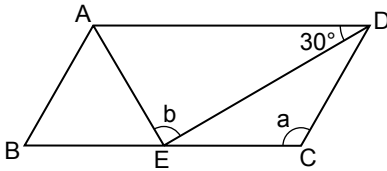
9.



Şekildeki ABCD dik yamuğunda, $[DC] \parallel [AB]$, $[DA] \perp [AB]$ ve $[AC] \perp [BD]$ 'tir. $|AC| = 6$ cm ve $|DB| = 8$ cm olduğuna göre, $|AB| + |DC|$ kaç santimetredir?

- A) 8 B) 10 C) 12 D) 14

10.

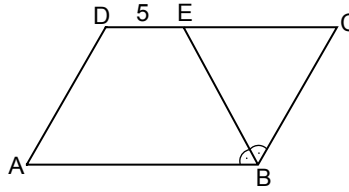


ABCD paralelkenarında, $|AB| = |BE| = |EC|$ 'tir.

$m(\widehat{ADE}) = 30^\circ$, $m(\widehat{ECD}) = a$ ve $m(\widehat{AED}) = b$ olduğuna göre, $a + b$ kaç derecedir?

- A) 210 B) 240
C) 270 D) 300

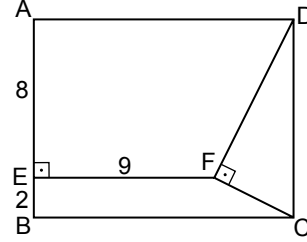
11.



Şekildeki ABCD paralelkenarında $[BE]$, \widehat{ABC} 'nin açıortayıdır. $|DE| = 5$ cm ve ABCD paralelkenarının çevresi 50 cm olduğuna göre, $|AB|$ kaç santimetredir?

- A) 10 B) 15 C) 20 D) 25

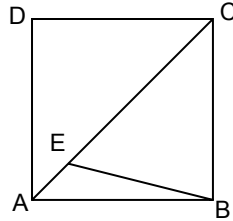
12.



ABCD dikdörtgeninde, $[FE] \perp [AB]$ ve $[DF] \perp [FC]$ 'tir. $|AE| = 8$ cm, $|EB| = 2$ cm, $|EF| = 9$ cm olduğuna göre, $|AD|$ kaç santimetredir?

- A) 13 B) 14 C) 15 D) 16

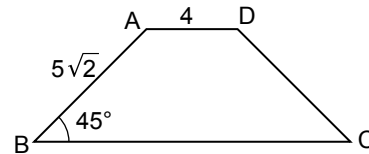
13.



Şekildeki ABCD karesinde $[AC]$ köşegendir. $|AE| = 2\sqrt{2}$ cm ve $|EC| = 8\sqrt{2}$ cm olduğuna göre, $|EB|$ kaç santimetredir?

- A) $\sqrt{17}$ B) $4\sqrt{2}$
C) $5\sqrt{2}$ D) $2\sqrt{17}$

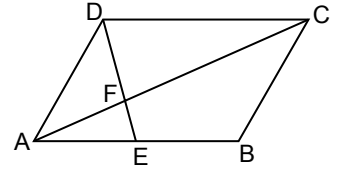
14.



ABCD ikizkenar yamuğunda, $[AD] \parallel [BC]$ 'dir. $|AD| = 4$ cm ve $|AB| = |DC| = 5\sqrt{2}$ cm olduğuna göre, $A(ABCD)$ kaç santimetrekaredir?

- A) 45 B) 50 C) 55 D) 60

15.



Şekildeki ABCD paralelkenarında E noktası $[AB]$ 'nin orta noktası, $[AC]$ köşegen ve $[AC] \cap [DE] = \{F\}$ 'tir.

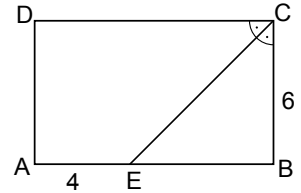
$A(\widehat{AEF}) = 10$ cm² olduğuna göre, ABCD paralelkenarının alanı kaç santimetrekaredir?

- A) 80 B) 100 C) 120 D) 140

16. ABCD karesinin alanı KLMN karesinin alanının 2 katına eşittir. $A(ABCD) + A(KLMN) = 27$ cm² olduğuna göre $\square(KLMN)$ kaç santimetredir?

- A) 15 B) 12 C) 9 D) 6

17.

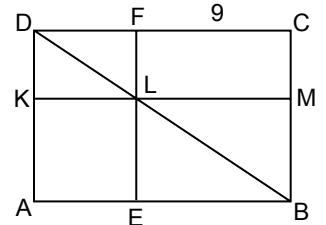


Şekildeki ABCD dikdörtgeninde $[CE]$, \widehat{BCD} 'nin açıortayıdır.

$A(\widehat{EBC}) = S_1$, $A(\widehat{AECD}) = S_2$, $|BC| = 6$ cm ve $|AE| = 4$ cm olduğuna göre, $\frac{S_1}{S_2}$ nedir?

- A) $\frac{2}{3}$ B) $\frac{1}{10}$
C) $\frac{3}{7}$ D) $\frac{2}{5}$

18.



Şekilde ABCD dikdörtgen, AELK kare ve L noktası $[DB]$ köşegeni üzerindedir. $A(FLMC) = 36$ cm² ve $|FC| = 9$ cm olduğuna göre, $A(ABCD)$ kaç santimetrekaredir?

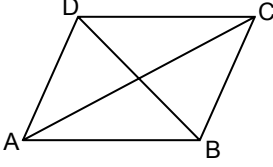
- A) 96 B) 104 C) 120 D) 150

1. OTURUM

19. Köşegenlerinin uzunlukları 12 cm ve 18 cm olan deltoidin alanı kaç santimetrekaredir?

- A) 216 B) 180
C) 108 D) 72

20.



ABCD eşkenar dörtgeninde, [AC] ve [DB] köşegendir.

$$\frac{|DB|}{|AC|} = \frac{2}{3} \text{ ve } A(ABCD) = 48 \text{ cm}^2$$

olduğuna göre, |AC| kaç santimetredir?

- A) 6 B) 8 C) 10 D) 12

(502) İNGİLİZCE – 8

1 - 20. sorularda boş bırakılan yere uygun gelen kelime ya da ifadeyi işaretleyiniz.

1. The cleaning is done - - - - the workers.

- A) if B) as C) by D) on

2. You must run - - - - fast as you can.

- A) as B) to C) at D) so

3. - - - - you heat iron, it expands.

- A) In B) Up C) Of D) If

4. I'm too tired. I'll be sleeping - - - - .

- A) yesterday B) recently
C) soon D) now

5. - - - - it is late, you can't go out.

- A) Before B) Since
C) While D) Until

6. He can't go - - - - he wants.

- A) as long as B) so that
C) because D) wherever

7. The flowers were - - - - by the gardener.

- A) published B) watered
C) written D) told

8. If you - - - - water, it evaporates.

- A) boil B) drink
C) pour D) wash

9. The children will be - - - - TV when we come home tonight.

- A) working B) spending
C) staying D) watching

10. I promise I will have - - - - all my homework by the weekend.

- A) built B) done
C) repaired D) discussed

11. The glass is - - - - by stone.

- A) break B) broke
C) broken D) breaking

12. I - - - - waiting for you at the airport when you arrive.

- A) have been B) will be
C) was D) am

13. We would sail all around the world if we - - - - a yacht.

- A) had
B) have
C) would have
D) would have had

14. Will you have - - - - doing your homework when I arrive home?

- A) finish B) to finish
C) finished D) finishing

15. The ship - - - - by the storm last month.

- A) would damage
B) was damaged
C) damaged
D) damages

16. Less money - - - - this year.

- A) would have spent
B) will be spending
C) is being spent
D) had been spent

17. I'll have gone far away by the time - - - - .

- A) you read this letter
B) you are cooking dinner
C) you visited your family
D) you have cleaned your car

18. If you work harder, - - - - .

- A) you are in hurry
B) you came home late
C) you would earn more
D) you will be successful

19. If it hadn't rained all weekend, - - - - .

- A) they would prepare a party
B) she often watches the news
C) we would have gone trekking
D) you will have a driving license

20. A: - - - - ?

B: To the library.

- A) Where will you be going after school
B) What will you be doing when you graduate
C) What time will you be leaving the office
D) How will you be travelling to your village

1. OTURUM

(502) ALMANCA – 8

1 - 18. sorularda boş bırakılan yere uygun gelen kelime ya da ifadeyi işaretleyiniz.

- Nicole kommt aus Frankreich, Thomas aus England und Petra aus Deutschland.
A: - - - - .
B: Thomas.
A) Wer kommt aus England?
B) Wann kommt er aus England?
C) Wie kommt er aus England?
D) Warum kommt er aus England?
- - - - du aufgepasst hättest, - - - - du den Fehler nicht machen.
A) Wann / dann
B) Wenn / würdest
C) Würdest / wenn
D) Dann / wann
- Der Mann, - - - - einen Regenmantel trägt, ist der Rektor.
A) das B) die C) der D) mit
- Ich glaube Ahmet - - - - heute kommen, - - - - für die Prüfung zu lernen.
A) werden / damit
B) damit / wird
C) wird / um
D) um / werden
- - - - du diese Schuhe kaufen?
A) Willst B) Will
C) Wollen D) Wollte
- Mein Onkel - - - - seit 20 Jahren bei einer Autofirma.
A) arbeiten B) arbeitet
C) gearbeitet D) arbeitete

- A: - - - - ist Eskişehir von Ankara entfernt?
B: Es ist 250 km entfernt.
A) Wo B) Wie lange
C) Wie weit D) Wie viel
- Sie - - - - noch keine 18 Jahre alt.
A) habe B) bin
C) bist D) ist
- Die rot- - - - - Blumen - - - - Garten sind sehr schön.
A) -es / im B) -en / in der
C) - - / in die D) -en / im
- Ich frage meine Mutter, ob ich ins Kino gehen - - - - .
A) darf B) mögen
C) dürfen D) sollen
- Wie kann ich - - - - Post gehen?
A) in B) um
C) von D) zur
- Kannst du mir ein Gedicht - - - - .
A) liest B) vorlesen
C) besuchen D) haben
- Sollen wir heute - - - - Morgen zur Bibliothek gehen?
A) oder B) aber
C) wenn D) dann
- Mein Vater hat Medizin - - - - . Er ist Arzt geworden.
A) studieren B) studiert
C) studierte D) studierten
- Alle denken, - - - - es diesen Sommer sehr heiß werden wird.
A) um B) denn
C) oder D) dass

- Das Auto, - - - - in der Garage steht, ist Antike.
A) der B) die C) das D) dem
- Die Schüler, - - - - aus Deutschland kommen, besuchen unsere Schule.
A) der B) die C) das D) den
- Wir - - - - euch nächste Woche besuchen.
A) wird B) werde
C) werden D) wirst



- Was ist er von Beruf?
A) Taxifahrer B) Pilot
C) Autofahrer D) Busfahrer
- Aşağıdakilerden hangisi sıfattır? (Adjektiv)
A) bunt B) verstecken
C) reparieren D) entwickeln

(502) FRANZIZCA – 8

1 - 18. sorularda boş bırakılan yere uygun gelen kelime ya da ifadeyi işaretleyiniz.

- - - - n'a rien mangé.
A) Tu B) Elle
C) Nous D) Vous
- Avant de manger, - - - - -toi les mains!
A) bois B) lève
C) lave D) couche
- Ce soir, on va au cinéma. N'oublie pas de (d') - - - - quatre tickets.
A) acheter B) habiter
C) voir D) respecter

1. OTURUM

4. La banque - - - - à 18h.

- A) fait B) veut
C) dort D) ferme

5. J'ai vu deux fois le film Titanic
- - - - je trouve super.

- A) qui B) dont
C) où D) que

6. A: Qu'est-ce que tu prends
comme dessert ?

B: Je prends - - - - .

- A) de la salade
B) de l'eau minérale
C) de la tarte aux fraises
D) des frites

7. A: Metin téléphone à - - - -?
B: Oui, il lui téléphone souvent.

- A) son père B) tes cousins
C) ses parents D) leurs enfants

8. A: Et toi, tu ne manges pas de
viande ?

B: Si, mais je peux - - - - manger
une fois par semaine.

- A) les B) en C) leur D) y

9. Les Turcs mangent 7 kilos de
viandes - - - - personne - - - - an.

- A) en / dans B) par / par
C) dans / en D) en / en

10. Je ne suis jamais allé au Kenya
mais mon oncle - - - - habite.

- A) par B) en C) y D) le

11. Erol a rendez-vous à 15 heures. Il
est 15h15.

Il est - - - - .

- A) à l'heure B) à minuit
C) en avance D) en retard

12. Elle a cassé les verres - - - - sa
maladresse.

- A) à cause de B) grâce à
C) parce que D) pourquoi

13. Pour maigrir, il faut - - - - .

- A) prendre des kilos
B) manger des gâteaux
C) faire du sport
D) manger beaucoup

14. - - - - Esin reviendra en Turquie.

- A) Avant-hier
B) L'année prochaine
C) Le mois dernier
D) Hier

15. A: Tu viens à ma petite fête ?

B: - - - - .

- A) Si je vais mieux, je veux venir
B) Si j'ai faim, je mange du
chocolat
C) Si j'ai soif, je veux boire du lait
D) S'il y a un bon film, je veux
aller

16. Il n'a pas fait ses devoirs, car
- - - - un bon film à la télé.

- A) il faisait froid
B) c'était
C) il pleuvait
D) il y avait

17. Sophie : Marc, je n'ai plus de
yaourt, tu peux
aller - - - -?

Marc : D'accord, il faut autre
chose ?

Sophie : Oui, du sucre pour le
gâteau.

- A) au supermarché
B) à la pharmacie
C) à la librairie
D) à la mairie

18. Tu peux conduire mais il faut
être - - - - .

- A) gras B) distraite
C) attentif D) marron

19- 20. sorularda verilen resme
göre cümlede boş bırakılan
kısımı tamamlayan sözcük
ya da ifadenin bulunduğu se-
çeneği işaretleyiniz.

19.



M. Dupont est - - - - qui n'a pas
d'enfants.

- A) un vieil homme
B) une jeune femme
C) une vieille femme
D) un jeune homme

20.



Quand il fait beau, - - - - .

- A) ils vont à la chasse avec des
chats
B) elle promène son chien dans
le parc
C) elle va à la poste avec ses chiens
D) ils se promènent toujours dans
le parc

1. OTURUM

(511) FIKIH – 1

1. Kur'an ve Sünnet gibi fıkhi delillerden dini hükümler ortaya koyabilme bilgi ve becerisine sahip kimselere ne ad verilir?

- A) Müfessir B) Müçtehit
C) Muhaddis D) Murakıp

2. Borçlar, alım-satım, kira ve sözleşme gibi mali konularla ilgili hükümler fıkıhın aşağıdaki konularından hangisinin içerisinde incelenir?

- A) Ukubât B) Münakehât
C) Muamelât D) Feraiz

3. Aşağıdakilerden hangisi fıkıh usûlünün konuları arasında yer almaz?

- A) Kaynaklardan nasıl hüküm çıkarılacağını belirlemek
B) Bir fıkhi hükmün hangi kaynaklardan alınacağını belirlemek
C) Fıkıhın dayandığı temel ilke ve esasların neler olduğunu belirlemek
D) Karşılaşılan meseleler hakkında haram, mekruh gibi hükümler vermek

4. Aşağıdakilerden hangisi fıkıh ilminin yararlandığı temel İslam bilimlerinden biri değildir?

- A) Felsefe B) Siyer
C) Kelam D) Hadis

5. Fıkıh usûlüne dair yazılmış aşağıdaki eserlerden hangisi İmam Şafii'ye aittir?

- A) El-Muvafakat
B) El-Mustasfa
C) Er-Risale
D) El-Usûl

6. "Gücünüzün yeteceği işleri yapınız, vallahi siz yorulmadıkça Allah yorulmaz."

Bu hadis fıkıh ilminin temel ilkelerinden hangisi için dayanak oluşturur?

- A) Helallerde genişlik
B) Haramlarda sınırlılık
C) Mükellefiyette kolaylık
D) Hükümlerde tedricilik

7. Aşağıdaki fıkhi uygulamalardan hangisi tedricilik ilkesi kapsamında değerlendirilemez?

- A) İçkinin üç aşamada yasaklanması
B) Namazın iki vakitten beş vakte çıkması
C) Zekât mecbur değilken zorunlu hale gelmesi
D) Hastalık, yolculuk gibi durumlarda ibadetlerde kolaylık getirilmesi

8. Aşağıdakilerden hangisi **Medine Dönemi fıkıhının özellikleri arasında yer alır**?

- A) Cihat, aile, miras, ceza vb. konularda ilkeler konulmuştur.
B) Kur'an'ın yaklaşık üçte biri nazil olmuştur.
C) Tebliğin ana konusu tevhid ve ahirettir.
D) Fıkhi hükümler azdır.

9. Rey ekolünün temelleri aşağıdaki sahabelerin hangisi tarafından atılmıştır?

- A) İbn Ömer B) İbn Mesut
C) İbn Abbas D) Zeyd b. Sabit

10. Aşağıdakilerden hangisi **Tabiiler Dönemi fıkıhının özellikleri arasında yer almaz**?

- A) Tedvin edilen hadisler, fıkhi konulara göre düzenlenmiştir.
B) Fıkıh ilmiyle ilgili eserler yazılmaya başlanmıştır.
C) Mezheplerin oluşumu bu dönemde başlamıştır.
D) Şûra içtihadı ile hükümler verilmiştir.

11. İmam Yusuf, İmam Muhammed ve İmam Zufer hangi mezhebin en tanınmış isimleridir ?

- A) Hanefilik B) Malikiilik
C) Şafilik D) Hanbelilik

12. • Fıkhi görüş bakımından Hanefiliğe yakındır.
• Şia'nın en büyük koludur.
• İmamiyye ve İsnâaşeriyye olarak da adlandırılır.

Hakkında bilgi verilen mezhep aşağıdakilerden hangisidir?

- A) Hanbeli Mezhebi
B) Maliki Mezhebi
C) Şafi Mezhebi
D) Caferi Mezhebi

13. **Vücub ehliyeti ne zaman başlar?**

- A) Doğmakla
B) Akıllı olmakla
C) Ergenlik çağına girmekle
D) On sekiz yaşına girmekle

14. **Aşağıdaki durumların hangisi kişiden mükellefiyeti kaldıran müktesep arızalardan biri değildir?**

- A) Bilgisizlik B) Sarhoşluk
C) Bunaklık D) Savurganlık

15. **Şari'in yapılmasını kesin ve bağlayıcı bir şekilde istediği fiillere ne denir ?**

- A) Farz B) Sünnet
C) Mübah D) Müstehab

16. **Aşağıdakilerden hangisi sünneti gayri müekkededir?**

- A) Ezan okumak
B) Kamet getirmek
C) Farz namazları cemaatle kılmak
D) İkinci namazının sünnetini kılmak

17. **Hanefi mezhebi dışındaki mezhepler sünnet ve müstehab kavramlarının yerine aşağıdaki-lerden hangisini kullanmışlardır?**

- A) Vacip B) Mendup
C) Mübah D) Makbul

18. **İnsanların özürlerinden dolayı geçici olarak konulmuş hükümlere ne denir?**

- A) Azimet B) Ruhsat
C) Sahih D) Fâsid

1. OTURUM

19. Aşağıdakilerden hangisi icma ile belirlenmiş durumlardan biri değildir?

- A) Sünnetin dinin temel kaynaklarından kabul edilmesi
- B) Kur'an'ın Mushaf haline getirilmesi
- C) Alkollü içeceklerin haram kılması
- D) Cuma vaktinde iki ezan okunması

20. İctihat ile ilgili olarak aşağıda verilen bilgilerden hangisi yanlıştır?

- A) Müçtehit sahabeler sorunları istişare yoluyla çözmüşlerdir.
- B) İctihat sonucu verilen hüküm kesin ve tek doğru değildir.
- C) Hz. Muhammed (sav.) döneminde içtihadla gerek görülmemiştir.
- D) İctihatla verilen hükümler bağlayıcı değildir.

(525) SEÇ. Y. DİL İNG. – 5

1 - 20. sorularda boş bırakılan yere uygun gelen kelime ya da ifadeyi işaretleyiniz.

1. My sister will be a doctor - - - - .

- A) for two weeks
- B) in the future
- C) since June
- D) last year

2. She was sunbathing with her friends on the beach - - - - .

- A) tomorrow
- B) next week
- C) since then
- D) last weekend

3. My computer has been out of order - - - - ten days.

- A) for B) on C) of D) at

4. The workers have been repairing the roof - - - - yesterday.

- A) last B) from C) since D) after

5. I was cleaning the windows - - - - it started to rain.

- A) when B) while C) because D) as soon as

6. She is working - - - - slowly today than yesterday.

- A) most B) more C) much D) many

7. Your house is wider - - - - ours.

- A) after B) from C) than D) then

8. He looks - - - - than yesterday. He can go to school.

- A) bad B) less C) good D) better

9. The Nile is - - - - than the Amazon River.

- A) longer B) earlier C) heavier D) cheaper

10. He should behave more - - - - if he wants to have new friends.

- A) easily B) slowly C) politely D) fluently

11. He didn't have a car, - - - - ?

- A) did he B) was he C) will he D) does he

12. Mert has never seen a lion, - - - - ?

- A) is she B) do you C) has he D) will they

13. Let's watch a movie, - - - - ?

- A) will they B) shall we C) can you D) does he

14. I - - - - afraid of horror movies when I was 10 years old.

- A) may be B) will be C) should be D) used to be

15. They have been - - - - the living room since morning.

- A) clean B) cleans C) cleaning D) cleaned

16. He - - - - to İstanbul two years ago.

- A) moves B) moved C) to move D) was moving

17. They had dinner and - - - - the dishes quickly.

- A) hoped B) called C) talked D) washed

18. The headmaster - - - - the classes next week.

- A) visited B) will visit C) have visited D) was visiting

19. A: My car has broken down. How can I go to work?
B: Don't worry! I - - - - you a lift.

- A) will give B) have given C) was giving D) am giving

20. While she was walking on the road, - - - - .

- A) she had an accident B) she will come here soon C) she is sleeping at home D) she can drive excellently

1. OTURUM

(525) SEÇ. Y. DİL ALM. – 5

1 - 18. sorularda boş bırakılan yere uygun gelen kelime ya da ifadeyi işaretleyiniz.

1. **A: Wann ist deine Prüfung?**
B: Sie ist morgen - - - - 10.00 Uhr.

- A) am B) um C) in D) im

2. **Ich bin schneller - - - - du.**

- A) so B) wenn
C) als D) um

3. **Der Film hat - - - - 18.00 Uhr - - - - 20.00 Uhr gedauert.**

- A) bis / um B) bis / bis
C) von / bis D) um / nach

4. **Ali wird - - - - Montag nicht in die Schule gehen.**

- A) so B) um
C) von D) am

5. **Herr Lang ist - - - - (1.70 m).
Herr Klein ist - - - - (1.75 m).
Herr Jürgen ist - - - - (1.80 m).**

- A) kurz, kürzer, am kürzesten
B) lang, länger, am längsten
C) dick, dicker, am dicksten
D) dünn, dünner, am dünnsten

6. **A: - - - - ist Susanne noch im Bett?**

B: - - - - sie krank ist.

- A) Wie / Wann
B) Denn / Weil
C) Warum / Weil
D) Wozu / Um

7. **der Vormittag, - - - -, der Nachmittag**

- A) die Nacht B) der Abend
C) der Morgen D) der Mittag

8. **(Juni, Juli, August) Welche Jahreszeit ist das?**

- A) Winter B) Sommer
C) Frühling D) Herbst

9. **Februar, - - - - April**

- A) Januar B) März
C) Mai D) Juni

10. **A: - - - - wirst du in Istanbul bleiben?**
B: Drei Tage.

- A) Wie oft B) Seit wann
C) Wie lange D) Von bis

11. **A: Wann hast du Pause?**
B: - - - - 12.00 Uhr.

- A) Wo B) Am
C) Im D) Um

12. **Ich bin im Jahre 1992 - - - - .**

- A) geboren B) besuchen
C) gegangen D) wohnen

13. **Ein Fahrrad ist - - - - als ein Auto.**

- A) schnellste B) langsamer
C) schnell D) langsam

14. **Sie hat sich - - - - neue Hose gekauft.**

- A) ein B) eines
C) eine D) einen

15.



Was ist sie von Beruf?

- A) Arzt
B) Ärztin
C) Lehrerin
D) Krankenschwester

16. **Meine Noten sind - - - - als letztes Jahr.**

- A) gut B) schlecht
C) besser D) am besten

17. **September, - - - -, November**


- A) Dezember B) August
C) Oktober D) Juli

18. **A: - - - - wirst du für die Prüfung lernen?**

B: In der Schule.

- A) Wo B) Wie
C) Wann D) Was

19.



Wie spät ist es?

- A) Viertel vor Acht.
B) Viertel nach Acht.
C) Viertel vor Neun.
D) Viertel nach Neun.

20. **Aşağıdakilerden hangisinde yanlış derecelendirme yapılmıştır?**

- A) das teuerste Auto
B) der billig Mantel
C) das billigste Haus
D) die schönste Blume

1. OTURUM

(525) SEÇ. Y. DİL FRAN. – 5

1 - 15. sorularda boş bırakılan yere uygun gelen kelime ya da ifadeyi işaretleyiniz.

1. - - - - ont regardé leurs émissions préférées à la télé.

- A) Nous B) Ils
C) Elle D) Vous

2. Hier soir, - - - - est rentrée à six heures du matin.

- A) elle B) il
C) elles D) lui

3. Sylvie? C'est la fille - - - - joue du piano.

- A) dont B) que
C) qui D) donc

4. Paris est la ville - - - - se trouve la tour Eiffel.

- A) que B) qui C) où D) donc

5. Voici la moto rouge - - - - Çetin a acheté.

- A) qui B) ce qui
C) ce que D) que

6. - - - - il fait chaud, Pierre va à la piscine.

- A) Quand B) Pourquoi
C) Comment D) Combien

7. Nous nous sommes promenés dans les rues de Bodrum - - - - été.

- A) au B) en
C) il y a D) dans

8. Paul a fait du - - - - dans les Alpes dimanche dernier.

- A) boxe B) natation
C) marche D) ski

9. - - - -, j'irai au lac d'Abant pour faire du camping.

- A) Lundi dernier
B) Hier
C) Demain
D) Pendant

10. Le jeune - - - - le père habite à Trabzon, est joueur de football.

- A) qui B) dont
C) où D) que

11. Les enfants apprennent beaucoup de choses - - - - la télé .

- A) regardez B) regarder
C) regardé D) en regardant

12. Leo Messi - - - - au football à l'équipe de Barcelone est sympa.

- A) jouant B) en jouant
C) jouer D) jouent

13. Ayten fait de l'aérobic en - - - - de la musique.

- A) écoute B) écoutant
C) écouter D) écoutons

14. Ils ne vont pas - - - - l'école - - - - pied.

- A) au / en B) en / en
C) à / en D) à / à

15. Pour me baigner, je vais - - - - .

- A) à la mairie
B) à la plage
C) à la librairie
D) à la bibliothèque

16. "M. et Mme Dubois sont partis en vacances." cümlesinde altı çizili sözcüklerin yerine aşağıdaki şahıs zamirlerinden hangisi kullanılabilir?

- A) Ils B) Nous
C) Vous D) Elles

17 - 18. sorularda verilen cümlelerin Türkçe karşılığını işaretleyiniz.

17. Il a vu son fils regardant le match de tennis.

- A) Oğlunu tenis oynarken izliyor.
B) Tenis oynarken birden oğlunu fark etti.
C) Tenis maçı izleyen oğlunu gördü.
D) Tenis oynayan oğlunu izliyordu.

18. Canan lit le journal en écoutant la radio.

- A) Canan gazete okurken radyo dinleyemez.
B) Canan gazete okurken radyo dinledi.
C) Canan radyo dinlerken gazete okuyamaz.
D) Canan radyo dinlerken gazete okuyor.

19 - 20. sorularda verilen cümlelerin Fransızca karşılığını işaretleyiniz.

19. Süt içen çocuklar sınıftan çıktılar.

- A) J'ai vu des enfants buvant du lait dans la rue.
B) Les enfants buvant du lait sont sortis de la classe.
C) Des enfants veulent boire du lait dans le jardin.
D) Des enfants prenant du lait entrent dans la classe.

20. Televizyon izlerken ödevlerini yapıyorlardı.

- A) Ils faisaient leurs devoirs en regardant la télévision.
B) Ils mangeaient devant la télévision.
C) Ils s'endormaient en regardant la télévision.
D) Ils ont fait leurs valises en regardant la télévision.

1. OTURUM

(528) SEÇ. Y. DİL İNG. – 8

1 - 20. sorularda boş bırakılan yere uygun gelen kelime ya da ifadeyi işaretleyiniz.

1. - - - - you heat ice, it melts.
A) As B) If C) To D) Of
2. The arrangements will be made - - - - the principle.
A) up B) so C) by D) at
3. The film was boring - - - - some of us got bored and went out.
A) since B) for
C) as D) so
4. - - - - he came, we were having dinner.
A) While B) When
C) Before D) After
5. - - - - I finished my work, it was almost midnight.
A) By the time
B) As soon as
C) As long as
D) Whenever
6. We keep our vegetables in the fridge - - - - keep them fresh.
A) until B) because
C) so that D) in order to
7. I'll be watching TV - - - - .
A) yesterday B) so far
C) soon D) now
8. He'll be - - - - as a policeman.
A) working B) doing
C) spending D) speaking

9. The cleaning is - - - - by the workers.
A) washed B) tidied
C) ironed D) done
10. They'll be - - - - for me at the airport.
A) wait B) waited
C) waiting D) to wait
11. The pyramids were - - - - by the ancient Egyptians.
A) build B) built
C) building D) to build
12. If it rains, the grass - - - - wet.
A) got B) gets
C) would get D) is getting
13. If you - - - - less chocolate, you would have been healthier.
A) had eaten
B) are eating
C) would eat
D) will eat
14. If it hadn't rained all the weekend, we - - - - trekking.
A) will go
B) would go
C) will have gone
D) would have gone
15. He - - - - the car by the time you arrive there.
A) will have washed
B) has washed
C) is washing
D) washes
16. If the teacher - - - - the homework better, I would - - - - it more quickly.
A) would explain / finished
B) had explained / finished
C) explained / finish
D) explains / finish

17. My dad will get angry with me if - - - - .
A) I clean the house
B) I find a new job
C) I pass my exams
D) I go home late
18. If I didn't repair it, - - - - .
A) the car would go faster
B) the engine wouldn't work
C) she wouldn't buy a mobile
D) I would lend you some money
19. I'll have already flown to Paris by the time - - - - .
A) you read this letter
B) you met your friends
C) you are washing the dishes
D) you finished your homework
20. This time next year - - - - .
A) I stayed in a cheap hotel
B) I was driving to my office
C) I'll be living in New York
D) I have already finished school

(528) SEÇ. Y. DİL ALM. – 8

1 - 15. sorularda boş bırakılan yere uygun gelen kelime ya da ifadeyi işaretleyiniz.

1. Ich gehe nicht ins Kino, - - - - es keinen schönen Film gibt.
A) denn B) dass
C) aber D) weil
2. A: - - - - ist Katja älter als Susi?
B: Ich meine sie ist älter.
A) Woher kommt
B) Was meinst du,
C) Wie alt
D) Wo wohnt
3. Die Frau, - - - - auf der Bank sitzt, ist über 80 Jahre alt.
A) der B) das C) die D) den

1. OTURUM

4. Ich denke, ---- alle Schüler unserer Schule die Prüfung bestehen werden.

- A) dass B) wie
C) aber D) weil

5. In diesem Restaurant kann ---- gut essen.

- A) wir B) dir C) bis D) man

6. Ich ---- letztes Jahr in die 11. Klasse. (Präteritum)

- A) gehen B) gehe
C) ging D) gegangen

7. Die Bilder, ---- unser Lehrer malt, sind sehr schön.

- A) der B) die C) das D) den

8. Unsere Schüler ---- ein Theaterstück in der Schule ----.

- A) haben / gespielt
B) hat / spielen
C) sind / gespielt
D) habe / spielte

9.



A: Ist die Flasche voll oder leer?
B: ----?
C: Ob die Flasche voll oder leer ist.

- A) Warum fragt er
B) Wie alt ist sie
C) Woher kommt er
D) Was meint er

10. Ali fragt, ob er mit ---- in den Urlaub fahren darf.

- A) wir B) er
C) dem D) uns

11. Nach dem Gymnasium möchte ich an einer Universität ----.

- A) studieren B) einkaufen
C) laufen D) gehen

12. Wenn ich Geld hätte, ---- ich mir ein Auto kaufen.

- A) werde B) habe
C) würde D) hätte

13. Er ---- in seiner Prüfung nicht ----.

- A) ist / vorgespielt
B) hat / aufgepasst
C) sei / spielen
D) ist passen


14. A: ---- spricht Sibel nicht mit dir?
B: ---- sie kein Deutsch kann.

- A) Weil / Warum
B) Warum / Weil
C) Wie / Darum
D) Darum / Warum

15. Er meint, ---- das Wetter heute schön sein wird.

- A) der B) die
C) das D) dass

16.



Was ist das?

- A) Burg B) Wand
C) Haus D) Tür


17. Aşağıdakilerden hangisi sıfattır? (Adjektiv)

- A) besuchen B) gefallen
C) lustig D) entwickeln

18. Was macht ein Bäcker?

- A) kochen B) singen
C) backen D) malen

19.



Bu iki resimden oluşan bileşik sözcük hangisidir? (Komposita)

- A) Der Wintergarten
B) Der Kindergarten
C) Die Kinderüberraschung
D) Der Blumengarten

20. Aşağıdakilerden hangisi ayrılabilen fiil değildir? (Trennbares Verb)

- A) bekommen B) anziehen
C) vorkommen D) anschauen

(528) SEÇ. Y. DİL FRAN. – 8

1 - 18. sorularda boş bırakılan yere uygun gelen kelime ya da ifadeyi işaretleyiniz.

1. ---- travaille dans un restaurant, il est cuisinier.

- A) Tu B) Elles
C) Nous D) Il

2. Avant de sortir, ---- votre manteau.

- A) mettez B) croyons
C) parlons D) éteindrez

3. Ce soir, on va au cinéma. N'oublie pas de (d') ---- cinq tickets.

- A) venir B) continuer
C) acheter D) porter

1. OTURUM

4. Le musée - - - - à 15 heures le dimanche.

- A) cherche B) ferme
C) bois D) mange

5. Ma tante a vu le film Titanic - - - - elle trouve super.

- A) qui B) que (qu')
C) où D) dont

6. A: Qu'est-ce qu'il prend comme boisson ?

B: Il prend - - - - .

- A) un gâteau au chocolat
B) du beurre
C) des pommes de terre
D) du jus de carotte

7. A: Mehmet téléphone souvent à - - - - ?

B: Oui, il leur téléphone souvent.

- A) ses parents B) son père
C) son cousin D) sa fille

8. A: Et toi, tu ne prends pas de poisson?

B: Si, mais je peux - - - - manger une fois par semaine.

- A) les B) y C) en D) lui

9. Les Turcs boivent 25 litres de lait - - - - personne - - - - an.

- A) en / dans B) dans / en
C) par / par D) en / en

10. Tuna n'a pas visité le palais Topkapı mais son frère - - - - travaille.

- A) en B) y C) par D) le

11. J'ai un rendez-vous à la mairie à 9h30. Il est déjà 9h.

Je suis - - - - .

- A) à l'heure B) en retard
C) à midi D) en avance

12. Il est triste - - - - ses mauvaises notes en maths.

- A) à cause de B) grâce à
C) parce que D) pourquoi

13. Pour grossir, il faut - - - - .

- A) faire du sport
B) perdre du kilo
C) marcher
D) manger beaucoup

14. - - - - j'irai à Adana pour le festival du film Altın Koza.

- A) Le mois prochain
B) Samedi dernier
C) Avant-hier
D) Hier

15. A: Tu viens à mon anniversaire ?
B: - - - - .

- A) S'il a faim, il mange de la salade
B) Si je vais mieux, je veux venir
C) S'il y a un bon film, je veux aller
D) S'il a soif, il veut boire du lait

16. Gökhan n'a pas fait ses devoirs, car - - - - un film d'action à la télé.

- A) il faisait chaud
B) il y avait
C) il faisait froid
D) c'était

17. Pierre : Claire, je n'ai plus de yaourt, tu peux aller - - - - ?

Claire : D'accord, il faut autre chose ?

Pierre : Oui, du sucre pour le gâteau.

- A) au musée
B) à la librairie
C) à la pharmacie
D) au supermarché

18. Tu peux conduire mais il faut être - - - - .

- A) attentif B) longue
C) nouveau D) hypocrite

19 - 20. sorularda verilen resme göre cümlede boş bırakılan kısmı tamamlayan sözcük ya da ifadenin bulunduğu seçeneği işaretleyiniz.

19.



Mme Dupont qui est - - - - , a cinq petits fils.

- A) une jeune fille
B) un vieil homme
C) une vieille femme
D) une fausse amie

20.



Quand il fait beau, - - - - .

- A) elle fait du vélo
B) il voyage en auto
C) il lave sa moto
D) elle répare son vélo

1. OTURUM

(532) HZ. MUHAMMED'İN HAY. – 2

1. Allah adına size sığınana yardım edip sığındırın. Allah adını anarak isteyene verin. Allah rızası için düştüğü tehlikeli durumdan yardım isteyene yardım edin. Size iyilik yapanı mükafatlandırın. Eğer bir şey bulamazsanız razı ettiğinize inanıncaya kadar ona dua ediniz.

Aşağıdakilerden hangisi bu Hadisten çıkarılamaz?

- A) İyilik karşılıksız bırakılmamalı
- B) Tehlikede olana yardım edilmeli
- C) İsteyen bir kimse boş çevrilmemeli
- D) Cemaatle namaz kılmaya özendirilmeli

2. Hz. Muhammed (sav) azatlı kölesi Zeyd'in oğlu Üsame'yi orduya komutan tayin etmiştir. Müslümanlar onun komutanlığından pek hoşlanmadılar. Bunun üzerine Peygamberimiz şöyle buyurdu: "Siz onun komutanlığından hoşlanmıyorsunuz daha öncede babasının komutanlığına dil uzatmıştınız. Allah'a yemin olsun ki babası ve oğlu bana insanların en sevimlilerindendir."

Bu metne göre Üsame'nin komutan olmasından hoşlanmalarının nedeni aşağıdakilerden hangisi olabilir?

- A) Yaşının genç olması
- B) Soylu bir aileye mensup olması
- C) Komutanlığını yeterli görmemeleri
- D) Babasının da komutanlık yapmış olması

3. İslam'a göre insanlar, yaratılışları bakımından, insani görev ve sorumluluklar açısından eşittirler. Makam, mevki, zenginlik, soylu bir aileye mensup olmak insanlara herhangi bir ayrıcalık kazandırmaz.

Bu metin aşağıdaki ayetlerden hangisiyle ilişkilendirilebilir?

- A) "Şüphesiz Allah, göklerin ve yerin gizliliklerini bilir. Allah yaptıklarınızı görendir."
(Hucurat suresi, 18. ayet)
- B) "Rabb'imiz Allah'tır deyip sonra da dosdoğru yaşayanlara korku yoktur ve onlar üzülmeyeceklerdir."
(Ahkaf suresi, 13. ayet)
- C) "(İnsanları), Allah'a çağıran doğru ve adil olanı yapan ve "Ben Müslümanlardım" diyenden daha güzel sözlü kim vardır?"
(Fussilet suresi, 33. ayet)
- D) "... Şüphesiz Allah katında en değerli olanınız O'na karşı gelmekten en çok sakınanınızdır. Şüphesiz Allah bilendir, her şeyden haberdardır."
(Hucurat suresi, 13. ayet)

4. **Aşağıdaki hadislerden hangisi konusu itibari ile diğerlerinden farklıdır?**

- A) İnsanlar tarağın dişleri gibi eşittir. Hiç kimsenin başkası üzerinde bir üstünlüğü yoktur.
- B) Hepiniz Adem'in evlatlarıdır ve Allah katında en sevgiliniz, en ziyade takva sahibi olanınızdır.
- C) Sizden biriniz kendisi için istediğini din kardeşi için de istemedikçe tam iman etmiş olmaz.
- D) Gerçekten şeytanın tuzakları ve ağları vardır. Bunlar; Allah'ın nimetleriyle azgınlık etmek, Allah'ın verdiği şeyle övünüp büyüklük iddia etmek, Allah'ın kullarına ululuk ve üstünlük taslamaktır.

5. Çocuklarından birine mal bırakan ama diğer çocuklarına bırakmayan birisine Peygamberimiz: "İyilik ve lütufta hepsinin eşit olmaları seni sevindirmeyi mi?" demiş. Adam, "evet" deyince, Peygamberimiz "Sana iyilik yapmaları senin onlar üzerindeki hakkın olduğu gibi, aralarında adaletli davranman da onların senin üzerindeki haklarıdır." demiştir.

Bu metnin ana düşüncesi aşağıdakilerden hangisidir?

- A) Çocuklara miras bırakılmalıdır.
- B) Çocukların anne - baba üzerinde hakları vardır.
- C) Çocuklar arasında ayırım yapılmamalıdır.
- D) Anne - babanın çocuklar üzerinde hakkı vardır.

6. Ey İnsanlar! Dikkat edin, sizin Rabb'iniz birdir, babanız da birdir. Adem'dir. Dikkat edin, hiçbir Arap'ın, hiçbir yabancı üzerine, hiçbir yabancıya Arap üzerine, siyahın kırmızı renkli üzerine, kırmızının siyah üzerine üstünlüğü yoktur. Fazilet ve üstünlük ancak takva iledir.

Bu hadisten aşağıdakilerden hangisi çıkarılamaz?

- A) Erkekler, kadınlardan önce yaratılmıştır.
- B) Bütün insanların atası Adem peygamberdir.
- C) Doğuştan getirilen özellikler, üstünlük olarak kabul edilemez.
- D) Peygamberin Araplardan olması onlara üstünlük sağlamaz.

7. Peygamberimizi ilk kez görmeye gelen bir kişi O'nu başkalarından ayırt edemeyerek: "Hanginiz Muhammed? Ya da kavmin efendisi hanginiz?" diye sormuştur.

Bu metne göre Peygamberimiz için aşağıdakilerden hangisi söylenemez?

- A) Geçimini ticaretle sağladığı
- B) Müttevazi bir insan olduğu
- C) Toplumda diğer insanlar gibi yaşadığı
- D) Toplumun diğer fertleri gibi davrandığı

1. OTURUM

8. Peygamberimizin oğlu vefat ettiği gün güneş tutuldu. Bazı insanlar, güneşin bu sebeple tutulduğunu söylediler. Bunun üzerine Peygamberimiz: "Ay ve Güneş Allah'ın ayetlerinden sadece iki ayettir. Bunlar, birinin ölümü veya doğumu için tutulmazlar. Onu tutulmuş gördüğünüz zaman, açılıncaya kadar Allah'a dua edin ve namaz kılın." buyurdu.

Aşağıdakilerden hangisi bu metinden çıkarılacak bir sonuç olamaz?

- A) Ay ve Güneş için belirlenmiş yasalar vardır.
- B) Güneş tutulması sırasında namaz kılınabilir.
- C) Doğa olaylarını açıklamak bilimin görevidir.
- D) Peygamberin oğlu da diğer insanlar gibi ölümlüdür.

9. Peygamberimizin vefatından sonra, Müslümanların istişare ile aldıkları ilk karar aşağıdakilerden hangisidir?

- A) Kur'an'ın toplanması
- B) Halifenin seçilmesi
- C) Namaza çağrının nasıl olacağı
- D) Peygamberimizin defnedilmesi

10. İlk vahiy geldiğinde eşinin tavsiyesiyle Peygamberimizin istişarede bulunduğu kişi aşağıdakilerden hangisidir?

- A) Varaka b. Nevfel
- B) Hz. Ebu Bekir
- C) Zeyd b. Sabit
- D) Hz. Osman

11. Peygamberimiz bazen kendi görüşüne uygun düşmese de istişare sonucu alınan kararları uygulamaya koymuştur.

Aşağıdakilerden hangisi bu duruma verilecek bir örnektir?

- A) Hendek kazılma fikrinin kabul edilmesi
- B) Uhud'da meydan savaşı yapılması
- C) Mescidi Nebi'nin yapılması
- D) Mescide minber yapılması

12. Aşağıdakilerden hangisi Peygamberimizin bireysel konularda yaptığı istişareye örnektir?

- A) Ele geçirilen esirlerin durumu
- B) Kızı Fatma'nın evliliği
- C) Zekatın nasıl toplanacağı
- D) Suffa'da kimlerin kalacağı

13. Aşağıdakilerden hangisi kendisiyle istişare edilen kişide bulunması gereken özelliklerden biri değildir?

- A) Bilgi sahibi olması
- B) Güvenilir olması
- C) Samimi olması
- D) Erkek olması

14. Aşağıdaki sözlerden hangisi istişarenin önemini dile getirmektedir?

- A) Akıl akıldan üstündür.
- B) Akılsız başın cezasını ayaklar çeker.
- C) Akılları pazara çıkarmışlar, herkes yine kendi aklını almış.
- D) Akıllı söylemeden düşünür, akılsız düşünmeden söyler.

15. Bir kadınla üç özelliğinden dolayı evlenilir; dini, malı ve güzelliği. Sen dindar olanı seç ki devamlı bereketler içerisinde olasın.

Bu hadiste aşağıdakilerden hangisi vurgulanmaktadır?

- A) Aile kurmanın önemi
- B) Evlilikte denkleğin önemi
- C) Evlilikte zenginliğin önemi
- D) Evlilikte dini ve ahlâki değerlere bağlılığın önemi

16. Aşağıdakilerden hangisi istişarenin faydaları arasında sayılmaz?

- A) Ortak hareket etme bilinci kazandırır.
- B) Karşımızdakine değer verdiğimiz belli olur.
- C) Farklı görüşler sayesinde düşünce dünyamız zenginleşir.
- D) Lider olma isteğimiz karşılık bulur.

17. Her kim yalnız Allah rızası için bir yetimin başını okşarsa elinin değdiği her saç teli hatırına sayısız sevap kazanır. Kim, yetim kalmış bir kız veya erkek çocuğunu yanına alıp iyilik ve güzellikle bakarsa ben ve o cennette yan yanayız.

Bu hadiste vurgulanan ana düşünce aşağıdakilerden hangisidir?

- A) Çocuklarla yakından ilgilenilmelidir.
- B) Yetimlere merhametle yaklaşılmalıdır.
- C) Sevaplar artırılmalıdır.
- D) Kız ve erkek ayrımı yapılmamalıdır.

18. Peygamberimiz, insanlara yardım eli uzatılırken hiçbir şeyi küçük ve önemsiz görmemek gerektiğini belirtmektedir. Zira iyiliğin küçüğü büyüğü olmaz. Kişinin niyeti yapılan yardımın mahiyetinden daha önemlidir.

Aşağıdakilerden hangisi bu metnin ana düşüncesi ile ilişkilendirilemez?

- A) Namazlar oturarak kılınmalıdır.
- B) Otobüste yaşlılara yer verilmelidir.
- C) Borçlu arkadaşına destek olunmalıdır.
- D) Görme engelli birine yardımcı olunmalıdır.

19. Bir kişi, bilge adama gelerek: "Hani Kur'an'da her türlü bilgi var diyordunuz. Bana Kur'an'da hamurun nasıl yapıldığını anlatan bir bilgi gösterebilir misiniz?" der. Bilge adam, "Bilmiyorsanız bir bilene sorun ayetini okudumun mı?" diyerek cevap verir.

Bilge adam aşağıdaki kavramlardan hangisine vurgu yapmıştır?

- A) İman
- B) Tebliğ
- C) İstişare
- D) Tevekkül

1. OTURUM

20. Aşağıdaki ayetlerden hangisi konusu itibariyle diğerlerinden farklıdır?

- A) "... Eğer karar verirken aralarında adaletle karar ver. Çünkü Allah adil olanları sever."
(Mâide suresi, 42. ayet)
- B) "Allah size ... İnsanlar arasında hükmettiğiniz zaman adaletle hükmetmenizi emreder."
(Nisâ suresi, 58. ayet)
- C) "İman edenlere söyle: Allah'ın (ceza) günlerinin geleceğini ummayanları başışlasınlar..."
(Casiye suresi, 14. ayet)
- D) "Ey iman edenler! Allah için hakkı ayakta tutan, adaletle şahitlik eden kimseler olun."
(Mâide suresi, 8. ayet)

(609) MATEMATİK – 6

1. $\frac{4! - 3!}{3!}$ işleminin sonucu kaçtır?

- A) 3 B) 7 C) 21 D) 24

2. $K = \{3, 4, 5, 6, 7, 8, 9\}$ kümesinin elemanlarıyla rakamları birbirinden farklı üç basamaklı 500'den büyük kaç doğal sayı yazılabilir?

- A) 120 B) 150
C) 180 D) 216

3. 3 bayan, 2 erkek yuvarlak bir masa etrafında erkekler yan yana olmak üzere kaç farklı şekilde oturabilirler?

- A) $3! \cdot 3!$ B) $2! \cdot 3!$
C) $5! \cdot 3!$ D) $6! \cdot 3!$

4. 3 kız, 4 erkek öğrenci düz bir sıraya kızlar yan yana olmak şartıyla kaç farklı biçimde oturabilirler?

- A) 120 B) 144
C) 288 D) 720

5. "ADANA" sözcüğündeki harflerle anlamlı ya da anlamsız 5 harfli kaç farklı sözcük yazılabilir?

- A) 20 B) 30 C) 60 D) 120

6. 6 doktor, 4 hemşire arasından, 2 doktor ve 3 hemşirenin bulunduğu 5 kişilik sağlık kurulu kaç farklı şekilde seçilebilir?

- A) 28 B) 30 C) 56 D) 60

7. $P(5, 3) + 2 \cdot C(4, 2)$ işleminin sonucu kaçtır?

- A) 60 B) 66 C) 72 D) 78

8. A ve B, E örnek uzayında iki olay olsun. $P(A) = \frac{1}{3}$, $P(B) = \frac{3}{4}$ ve $P(A \cap B) = \frac{1}{4}$ olduğuna göre, $P(A \cup B)$ kaçtır?

- A) $\frac{1}{2}$ B) $\frac{2}{3}$ C) $\frac{4}{5}$ D) $\frac{5}{6}$

9. Bir torbada renkleri dışında aynı özelliklere sahip 3 beyaz, 4 mavi ve 5 kırmızı bilye vardır. Torbaya geri atılmamak koşuluyla art arda rastgele çekilen iki bilyenin de beyaz renkte olma olasılığı nedir?

- A) $\frac{1}{2}$ B) $\frac{5}{11}$ C) $\frac{1}{11}$ D) $\frac{1}{22}$

10. 1'den 51'e kadar olan çift sayıların toplamının Σ sembolü ile gösterimi aşağıdakilerden hangisidir?

- A) $\sum_{k=1}^{25} 2k$ B) $\sum_{k=1}^{25} (2k - 1)$
C) $\sum_{k=1}^{50} 2k$ D) $\sum_{k=1}^{50} (2k + 1)$

11. $\sum_{k=-4}^4 k^3$ değeri kaçtır?

- A) -64 B) 0
C) 16 D) 64

12. $\prod_{k=1}^3 2k$ değeri kaçtır?

- A) 48 B) 36 C) 24 D) 12

13. $\prod_{k=1}^x 3^k = 3^{15}$ olduğuna göre, x kaçtır?

- A) 3 B) 4 C) 5 D) 6

14. $(a_n) = \left(\frac{2^n}{n+1}\right)$ dizisinin üçüncü terimi kaçtır?

- A) 1 B) $\frac{5}{4}$ C) 2 D) $\frac{9}{4}$

15. $(a_n) = \left(\frac{21}{n+1}\right)$ dizisinin kaç terimi tam sayıdır?

- A) 3 B) 4 C) 5 D) 6

16. $(a_n) = \left(\frac{2n+k}{n+1}\right)$ dizisi sabit dizi olduğuna göre, k kaçtır?

- A) 1 B) 2 C) 3 D) 4

17. $(a_n) = \left(\frac{3n-4}{-2n+1}\right)$ dizisinin limiti kaçtır?

- A) -4 B) $-\frac{3}{2}$
C) $\frac{1}{2}$ D) 6

18. Bir aritmetik dizide $a_1 = 2$ ve $a_2 = 5$ olduğuna göre, a_6 kaçtır?

- A) 11 B) 14 C) 17 D) 20

19. $\frac{1}{4}$ ile 32 arasında bu sayılarla birlikte geometrik dizi oluşturacak şekilde 6 tane sayı yerleştirilirse bu dizinin baştan 5. terimi kaç olur?

- A) 1 B) 2 C) 4 D) 8

20. $\sum_{n=1}^{\infty} \left(\frac{2}{3}\right)^n$ değeri kaçtır?

- A) $\frac{2}{3}$ B) 1 C) $\frac{9}{4}$ D) 2

1. OTURUM

(611) KARŞ. DİN. TAR. – 1

1. Karşılaştırmalı Dinler Tarihi bilimiyle alakalı olarak aşağıda verilen bilgilerden hangisi yanlıştır?

- A) Herhangi bir dinin savunmasını yapmaz.
- B) Dinleri hak-batıl şeklinde ayırarak inceler.
- C) Dinlerin, inanç, ibadet ve ahlak sistemlerini inceler.
- D) Dinlerin doğuşlarını ve gelişmelerini inceler.

2. • Dinin görünen (dışa akseden) yönlerini sistematik olarak inceler.
• Dinin tarihi gelişimini dikkate almaksızın dini olguları, görünen yönleriyle konu edinir.
• Çeşitli dinlerin ibadet, ayin, yer, zaman, şahsiyet ve kutsallarını inceler.

Hakkında bilgi verilen bilim dalı aşağıdakilerden hangisidir?

- A) Din Fenomolojisi
- B) Din Sosyolojisi
- C) Din Psikolojisi
- D) Din Felsefesi

3. Müfessirler çalışmalarında aşağıdaki konulardan hangisi için Karşılaştırmalı Dinler Tarihi biliminden faydalanmamışlardır?

- A) Garibü'l Kur'an olarak bilinen kelimelerin hangi dilden geldikleri
- B) Kur'an'da geçen kıssaların zaman ve yerleri
- C) İmanın şartlarının belirlenmesi
- D) İsrailiyat olarak bilinen konuların ayırt edilmesi

4. Karşılaştırmalı Dinler Tarihi alanında yazılmış aşağıdaki eserlerden hangisi Biruni'ye aittir?

- A) Kitab'ut Tahkik Mali'l-Hint
- B) Dinler Tarihine Giriş
- C) Tarih'i Eryan
- D) Dinler Tarihi

5. Evrimci görüşü savunanlar aşağıdaki inançlardan hangisini dinin kaynağı olarak göstermemişlerdir?

- A) Atalar kültü
- B) Animizm
- C) Totemizm
- D) Monoteizm

6. Aşağıdakilerden hangisi Müslüman alimlerin dinin kaynağı ile ilgili görüşleri arasında yer almaz?

- A) Dinler ilahi ve beşeri olmak üzere ikiye ayrılırlar.
- B) Din, Hz. Adem'le başlayıp Hz. Muhammed'le tamamlanmıştır.
- C) Din, Allah'ın peygamberler vasıtasıyla bildirdiği ilahi kurallardır.
- D) Hristiyanlık ve Yahudilik değiştirildikleri için beşeri dinlerdendir.

7. Yahudilere göre Yahudiliğin tarihi aşağıdakilerden hangisiyle başlar?

- A) Hz. İbrahim
- B) Hz. İshak
- C) Hz. Yakup
- D) Hz. Yusuf

8. Yahudi tarihine göre Kudüs'ü aşağıdakilerden hangisi fethetmiştir?

- A) Hz. Musa
- B) Hz. Yûşâ
- C) Hz. Davut
- D) Hz. Süleyman

9. Hz. Süleyman'ın Kudüs'de inşa ettirdiği mabedin İslam geleneğindeki adı nedir?

- A) Beyt'ül -Atik
- B) Beyt'ül- İzze
- C) Beyt'ül -Mamur
- D) Beyt'ül- Makdis

10. Aşağıdakilerden hangisi Yahudilikteki "On Emir"de yer almaz?

- A) Çalmayacaksın
- B) Öldürmeyeceksin
- C) Zina yapmayacaksın
- D) Gıybet etmeyeceksin

11. Aşağıdakilerden hangisi Yahudilik ve İslam dininin ortak özelliklerinden biri değildir?

- A) İbadethanelerinde resim bulunmaması
- B) Kutsal günlerde çalışılmaması
- C) Domuz etinin haram olması
- D) Sünnet olmak

12. Hristiyanlığa; teslis, evharistiya ve ilk günah tasavvuru gibi fikirleri aşağıdakilerden hangisi getirmiştir?

- A) Pavlus
- B) Petrus
- C) Barnaba
- D) Yuhanna

13. Kur'an-ı Kerim'de Hristiyanların en çok eleştirildiği konu aşağıdakilerden hangisidir?

- A) Hz. Meryem'e bakış
- B) Sünnet olmama
- C) İlk günah
- D) Teslis

14. Hz. Muhammed (sav.)'e ilk iman eden aşağıdakilerden hangisidir?

- A) Hz. Ebu Bekir
- B) Hz. Hatice
- C) Hz. Zeyd
- D) Hz. Ali

15. De ki: "Ey kitap ehli! Bizimle sizin aranızda ortak bir söze gelin: Yalnız Allah'a ibadet edelim. O'na hiçbir şeyi ortak koşmayalım. Allah'ı bırakıp da kimimiz kimimizi ilâh edinmesin." Eğer onlar yine yüz çevirirlerse, deyin ki: "Şahit olun, biz Müslümanlarız." (Al-i İmran suresi, 64. ayet)

Bu ayette diğer ilahi din mensupları aşağıdakilerden hangisine davet edilmektedir?

- A) İnsanın doğuştan günahsız olduğu anlayışına
- B) Allah katında üstünlüğün takva ile olduğuna
- C) Ruhbanlıktan vazgeçilmesine
- D) Tehvid inancına

1. OTURUM

(617) SEÇ. DİL ve ANLA. – 7

16. Aşağıdaki ibadetlerden hangisinin yapılabilmesi için belirli bir yer (mekan) şartı vardır?

- A) Namaz B) Oruç
C) Hac D) Zekat

17. İslam dini için aşağıdakilerden hangisi söylenemez?

- A) Kadına gerçek değerini ve hakkını vermiştir.
B) İnsan ve toplum tabiatına aykırıdır.
C) Dünya ve ahiret dengesi vardır.
D) Akla ve bilime önem verir.

18. • Kast sistemi
• Karma
• Hulûl

Bu kavramlar aşağıdaki dinlerin hangisinde yer alır?

- A) Hinduizm B) Caynizm
C) Budizm D) Sihizm

19. Aşağıdaki dinlerden hangisi Çin ve Japon dinleri arasında yer almaz?

- A) Konfüçyanizm
B) Şintoizm
C) Caynizm
D) Taoizm

20. Zerdüştlük aşağıdaki ülkelerin hangisinde ortaya çıkmıştır?

- A) Hindistan B) Japonya
C) İran D) Çin

1. Bir adam pazardan altın bir tavuk almış. Tavuk her gün bir altın yumurta yumurtluyormuş. Bu durumu öğrenen adam çok sevinmiş. Sevinmiş sevinmesine de tavuğun içinde hazine olduğunu zannetmiş. Tavuğu kesip içindeki altınları çıkararak bir an önce zengin olmak istemiş. Tavuğu kesip karnını açtığı anda hazine olmadığını görmüş. O da diğer tavuklar gibiymiş. Ne çare ki işiştten geçmiş.

Bu fablın teması aşağıdakilerden hangisidir?

- A) Bencillik B) Açgözlülük
C) Plansızlık D) Tutsarsızlık

2. Aşağıdakilerden hangisi halk hikâyelerini oluşturan bölümlerden biri değildir?

- A) Söyleşi B) Dua
C) Döşeme D) Asıl olay

3. Sevdan ki bir yıkıcı kuştur yüreğimde
Gümbürder zulme karşı kan gibi

Bu dizelerdeki söz sanatı aşağıdakilerden hangisidir?

- A) Kişileştirme
B) Kinaye
C) Güzel nedene bağlama
D) Benzetme

4. Unuttum, elleri nasıldı annemin
Unuttum, gözleri nasıldı bakarken.
Anne kokusu getirsin rüzgâr
Yağmur usulcacık yağarken

Bu dördlüğün teması aşağıdakilerden hangisidir?

- A) Yalnızlık B) Özlem
C) Gurbet D) Zaman

5. Aşağıdakilerin hangisinde kahraman (1. şahıs) anlatıcı bakış açısı vardır?

- A) Derviş Hasan hiddetinden sanki deli oldu. Yörük, arkadaşlarını çağırdı ve Derviş Hasan'ın başına üşüştüler.
B) Çocuk apartmanın kapısından girdi. Hızlıca merdivenleri inip kömürlüğe saklandı.
C) Bu on gün bana on sene gibi geldi. Gündüz hizmetliye gazeteleri aldırır, bütün gün onları okurdum.
D) Kumandan atına atladı ve atını şahlandıranarak düşmanın üzerine doğru dötrnala sürdü.

6. Aşağıdakilerden hangisi öğretici metinleri sanatsal metinlerden ayıran bir özellik değildir?

- A) Amaç okuyucuya doğrudan bilgi vermektir.
B) Üslup kaygısı vardır.
C) Dil göndergesel işlevde kullanılır.
D) Gerçeklik ön plandadır.

7. Aşağıdakilerden hangisi maddelerin genel özelliklerinden değildir?

- A) Anonim bir türdür.
B) Çok fazla yerel özellikler taşımaz.
C) Tekerlemeyle başlar.
D) Dilin göndergesel işlevi kullanılır.

8. Aşağıdaki dizelerin hangisinde teşhis (kişileştirme) sanatı yapılmıştır?

- A) Dindi türküsü yaralı cırcır böceğinin
Onu artık kim sorar, kim anımsar?
B) Ağzımda mavi bir ıslık
Omuz başımda yıldızlar
C) Aydınlık ve ince bakışların vardı
Coşardı çevren bir söz
söylediğinde
D) El ayak çekildi
Gecenin gölgesine bir düş gibi uzandın

1. OTURUM

9. Vaktiyle, bilmem ne memlekette hüküm süren bir padişahın küçük oğlu, rüyada gördüğü dünya güzeli bir kıza âşık olur ve sevgilisini bulmak ümidiyle yollara düşer. Bereket versin daha ilk adımı, bizim sevdalı şehzadeye uğurlu gelir. Takatten düşmüş bir ninenin kuyudan su çekmeye çalıştığını görünce koşar yardım eder. Bundan çok memnun olan kadıncağız, kendi saçından kopardığı iki teli ona vererek der ki: "Oğlum, başın darda kaldığı zaman bu iki kılı birbirine çakarsın; bir dudağı yerde, bir dudağı gökte bir Arap çıkar karşına. Adı Abbas'tır. Karnın mı acıktı? Abbas, dersin; sana mükellef bir sofraya kurar."

Bu parçada, masalın aşağıdaki özelliklerinden hangisi örneklenmemiştir?

- A) Tekerlemelere yer verilir.
- B) Yer ve zaman kavramı belirsizdir.
- C) Olağanüstülükler yer verilir.
- D) Dil şiirsel işlevinde kullanılır.

10. **Aşağıdakilerden hangisi durum hikâyeciliğinin özelliklerinden dir?**

- A) Gerçeklik abartılarak anlatılır.
- B) Serim düşüm, çözüm planına uyulur.
- C) Kahramanlar arasındaki çatışma ve karşılaşmalar önemlidir.
- D) Merak ögesi ikinci plandadır.

11. Kimsede hiç para kalmamıştı. Hasan, bütün obanın kadınlarından, kızlarından birer altın topluyordu. Belki de kadınlar son altınlarını veriyorlardı. O gece, Abdullah altınları getirdi; babasına verdi. Süleyman Kâhya önüne getirilen kulplu altınları ateşin ışığında saydı. İşte son servetleri de buydu.

Bu parçada anlatmaya bağlı edebî metinlerin yapı unsurlarından hangisi yer almamıştır?

- A) Zaman
- B) Kişi
- C) Yer
- D) Olay

12. Kara Mustafa, öyle olduğu yerde bakıp kaldı arkalarından. Anlayamadığı, aklının almadığı bir şey zonklayıp durdu ense kökünde. Yüreği bir cenderedeydi sanki. Sabahleyin Somuncu Baba'ya anlattığı yıldırım düşünüyü hatırladı nedense. Dervişler öğlen sıcağında yola sıralanmış, çömelmiş, işlerine dalmışlardı. Taş tıkırtıları, taşa hafif hafif vuran tokmak, çekiç sesleri geliyordu.

Bu parçayla ilgili aşağıdakilerden hangisi söylenemez?

- A) Olayın geçtiği mekân betimlenerek verilmiştir.
- B) Hâkim (ilahi) anlatıcının bakış açısıyla anlatılmıştır.
- C) Kahraman, ruh hâliyle yansıtılmıştır.
- D) Zaman unsuruna yer verilmiştir.

13. **Aşağıdaki yazar – eser eşleştirmelerinden hangisi yanlıştır?**

- A) Ahmet Mithat Efendi – Letaif-i Rivayat
- B) Halikarnas Balıkcısı – Merhaba Akdeniz
- C) Orhan Kemal – Ekmek Kavgası
- D) Memduh Şevket Esental – Memleket Hikâyeleri

14. **Aşağıdakilerden hangisi anlatmaya bağlı edebî türlerden değildir?**

- A) Tiyatro
- B) Masal
- C) Roman
- D) Hikâye

15. **Aşağıdakilerden hangisi Sait Faik Abasıyanık'ın hikâyelerinden biri değildir?**

- A) Yüksek Ökçeler
- B) Alemdağ'da Var Bir Yılan
- C) Mahalle Kahvesi
- D) Lüzumsuz Adam

16. **Aşağıdakilerden hangisi Türk halk tiyatrosu türlerinden değildir?**

- A) Meddah
- B) Karagöz
- C) Komedi
- D) Orta oyunu

17. **Aşağıdaki halk hikâyelerinden hangisi Türk kaynaklıdır?**

- A) Ferhat ile Şirin
- B) Köroğlu
- C) Leyla ile Mecnun
- D) Kelile ve Dimme

18. **Aşağıdakilerden hangisi dünya edebiyatında fabl türünde eser veren ilk sanatçılardan değildir?**

- A) La Fontaine
- B) Şeyh Sadi
- C) Montaigne
- D) Aisopos (Ezop)

19. **Aşağıdakilerin hangisinde trajedi ile ilgili yanlış bir bilgi verilmiştir?**

- A) "Üç birlik" kuralına uyulur.
- B) Öldürme, yaralama gibi acı olaylar sahnede gösterilmez.
- C) Kişiler çoğunlukla halktan kim-selerdir.
- D) Nazımla yazılır.

20. **Aşağıdakilerden hangisi aşk konulu halk hikâyelerindendir?**

- A) Danişment Gazi
- B) Dede Korkut
- C) Köroğlu
- D) Kerem ile Aslı

1. OTURUM

(618) SEÇ. DİL ve ANLA. – 8

1. Aşağıda verilen dipnot örneklerinden hangisi doğrudur?

- A) Mahalle Kahvesi, Sait Faik Abasıyanık, YKY Yayınları, İstanbul 2007, 12. baskı, s.69
B) Sait Faik Abasıyanık, Mahalle Kahvesi, YKY Yayınları, İstanbul 2007, 12. baskı, s.69
C) Sait Faik Abasıyanık, Mahalle Kahvesi, 12. baskı, İstanbul 2007, YKY Yayınları, s.69
D) Mahalle Kahvesi, Sait Faik Abasıyanık, 12. baskı, İstanbul 2007, YKY Yayınları, s.69

2. I. Sonuç

II. Konunun sunuluşu

III. Sorular ve cevaplar

IV. Hitap cümlesi

V. Konferansın amacı

Numaralanmış bölümler aşağıdaki sıralamaların hangisiyle düzenlenirse konferansın planı verilmiş olur?

- A) IV – II – V – III – I
B) IV – V – II – I – III
C) V – II – IV – III – I
D) V – IV – II – I – III

3. Yazar, düşünür ve sanatçıların veya kendi alanında uzman kişilerin bir konuyu açıklamak, tanıtmak, bilgi vermek, öğretmek amacıyla yaptıkları konuşmalara - - - - denir.

Bu parçada boş bırakılan yere aşağıdakilerden hangisi getirilmelidir?

- A) nutuk B) sempozyum
C) konferans D) açık oturum

4. Aşağıdakilerden hangisi konferans veren kişinin konferans sırasında dikkat etmesi gereken özelliklerden değildir?

- A) Konu açıldıkça konunun farklı alanlarına girmek
B) Dinleyicilerin bilgi, kültür ve zevk düzeyini dikkate almak
C) Bayağı ve argo sözleri kullanmaktan kaçınmak
D) Vücut hareketlerini ve mimiklerini konuşmaya göre ayarlamak

5. Konferansta dil, ağırlıklı olarak hangi işlevinde kullanılır?

- A) Heyecana bağlı işlev
B) Şiirsel işlev
C) Göndergesel işlev
D) Alıcıyı harekete geçirme işlevi

6. Açık oturumda aşağıdaki anlatım biçimlerinden hangisi kullanılamaz?

- A) Açıklayıcı B) Öyküleyici
C) Kanıtlayıcı D) Tartışmacı

7. Aşağıdakilerden hangisi açık oturum başkanının görevlerinden değildir?

- A) Konuşmacıların sözünü keserek onları yönlendirmek
B) Oturum öncesinde plan yapmak
C) Oturum sonunda ortaya çıkan düşünceleri özetleyerek genel bir değerlendirme yapmak
D) Konuyu belirtip konuşmacıları tanıtmak

8. Aşağıdakilerden hangisi açık oturumun özelliklerinden biridir?

- A) Konuşmacı sayısında belirli bir sınır yoktur.
B) Amacı bir sorunu çözmek ve tartışma sonunda ortak bir karara varmaktır.
C) Ciddi bir hava içinde gerçekleştirilir.
D) Ortaya atılan düşüncelerin bilimsel geçerliği olmalıdır.

9. • Düzenleme kurulu bulunur.
• Birkaç gün sürebilir.
• Sonunda bir bildirge yayımlanır.
• Oturumu yönetmek için bir başkan bulunur.

Bu özellikler aşağıdaki tartışma türlerinden hangisine aittir?

- A) Forum B) Konferans
C) Sempozyum D) Açık oturum

10. Forumu diğer tartışma türlerinden ayıran en belirgin özellik aşağıdakilerden hangisidir?

- A) Bilimsel olması
B) Bir başkan tarafından yönetilmesi
C) Sunum araçlarının kullanılması
D) Dinleyicilerin tartışmaya aktif olarak katılması

11. Aşağıdakilerden hangisi açık oturum, sempozyum, konferans, forum ve münazara anlatım türlerinin ortak bir özelliği değildir?

- A) Dilin göndergesel işlevde kullanılması
B) Bir başkan tarafından yönetilmesi
C) Bir dinleyici topluluğunun bulunması
D) İki farklı tartışma grubunun bulunması

12. Aşağıdakilerden hangisi münazarada hakem kurulunun konuşmaları değerlendirme esaslarından değildir?

- A) Konuşmacıların konuşma yeteneği
B) Konuşmacıların kılık kıyafeti
C) Beden dilini kullanıp kullanmaması
D) Savunmada inandırıcı olmaları

13. Münazarada tartışan kişiler aşağıdakilerden hangisini yapmamalıdır?

- A) Süslü söyleyişlere değil, sağlam fikirlere önem vermek
B) Daha önceden söylenmiş bilgileri ve örnekleri tekrarlamamak
C) Kişisel üstünlüğünü kanıtlamak
D) Düşünceleri anlaşılır, açık ve kısa söylemek

1. OTURUM

14. Aşağıdaki cümlelerin hangisinde gereksiz sözcük kullanıldığı için duruluk bozulmuştur?

- A) Hırs ve öfkesine yenik düşen insanlar asla başarılı olamazlar.
- B) Bunca olumsuz şart ve koşula rağmen amacımıza ulaştık.
- C) Yağmurun altında onunla hiç konuşmadan yavaş yavaş yürüdük.
- D) İnceleyeceğim evraki yorgun, isteksiz bir şekilde elime aldım.

15. Aşağıda sempozyumla ilgili verilen bilgilerden hangisi yanlıştır?

- A) Sempozyumlar fizik, kimya, biyoloji, tıp gibi bilim alanlarında yapılabilir.
- B) Önceden belirlenmiş bir konuşmacı grubu bulunur.
- C) Belirli bir konu konuşmacılar tarafından farklı yönleriyle açıklanmaya çalışılır.
- D) Dinleyiciler sempozyum yapılan konuda uzmanlaşmış kişilerdir.

16. (I) Forum bilimsel ve akademik konularda düzenlenir. (II) Aktif bir katılımcı konumunda bulunan dinleyiciler farklı kültür, anlayış ve yaş gruplarından oluşur. (III) Bu nedenle hem katılan uzmanları hem de katılımcıları yöneteceği için forum başkanının görevi diğer sözlü anlatım türlerindeki başkanlara göre daha zordur. (IV) Forumda amaç belli kararlara varmak değil konuyu değişik anlayışlarla farklı boyutlarıyla ortaya koymaktır.

Bu parçada numaralanmış cümlelerin hangisinde yanlış bilgi verilmiştir?

- A) I. B) II. C) III. D) IV.

17. Aşağıdakilerden hangisi münazaranın öğrencilere kazandırdığı özelliklerden biri değildir?

- A) Karşı fikre saygı duymasını sağlamak
- B) Ezber gücünü artırmak
- C) Toplum önünde soğukkanlı konuşma alışkanlığı kazandırmak
- D) Araştırma, inceleme yöntemlerini öğrenmelerini sağlamak

18. • Sayfa içinde geçen herhangi bir düşünce veya bilgi ile ilgili olarak sayfanın altına konan açıklama
- Belli bir konu, yer veya dönemle ilgili yayınları kapsayan veya en iyilerini seçen eser listesi
 - Bir kitabın veya derginin kişi, konu, yer adı vb. bakımdan içindekileri yer numarasıyla belirten ve eserin arkasında yer alan alfabetik liste

Aşağıdaki kavramlardan hangisi bu tanımlardan biriyle eşleştirilemez?

- A) Kaynakça
- B) Dipnot
- C) Dokümantasyon
- D) İndeks

19. (I) Bilimsel yazılarla makalelerin benzerlikleri olduğu gibi farklılıkları da vardır. (II) Bir kere bilimsel yazılar makaleye göre daha geniş bir araştırmaya dayanır. (III) Bilimsel yazıların okuyucusunun o konuda belli bir birikime sahip olması gerekir. (IV) Her iki türde de amaç bilgi vermek olduğu için sözcükler gerçek anlamlarıyla kullanılır. (V) Yalnız, bilimsel yazılarda anlatılanların kanıtlanması gerekmez.

Bu parçada numaralanmış cümlelerin hangisinde bilgi yanlış vardır?

- A) II. B) III. C) IV. D) V.

20. Bilimsel yazılarla ilgili aşağıda verilen bilgilerden hangisi yanlıştır?

- A) Dil alıcısı harekete geçirme işlevinde kullanılır.
- B) Dipnot, kaynakça ve indeks kullanılır.
- C) Bilimsel buluşları iletmek için yazılır.
- D) Konferans raporları, toplantı özetleri bilimsel yazı türleridir.

(624) SEÇ. TÜRK EDEB. – 4

1. Alegorik olarak tasarlanan eserde kahramanların her biri bir varlığı simgelemektedir. Eser Kün Toğdı, Ay Toldı, Ögdilmiş ve Odgurmış'ın kendi aralarındaki konuşmalarına dayanır. Eserlerde iyi bir devlet yönetiminin tablosu çizilir. Bu yönüyle eser bir siyasetname özelliği gösterir.

Bu parçada sözü edilen eser aşağıdakilerden hangisidir?

- A) Kutadgu Bilig
- B) Atabetü'l Hakayık
- C) Divanü Lügati't Türk
- D) Divan-ı Hikmet

2. Aşağıdaki cümlelerin hangisinde Atabetü'l Hakayık ile ilgili yanlış bilgi verilmiştir?

- A) Kitapta dörtlük ve beyit bir arada kullanılmıştır.
- B) Karahanlılar döneminin ilk edebi eseridir.
- C) Edip Ahmet Yükneki tarafından yazılmıştır.
- D) Eser Allah'a, Peygamber'e övgüyle başlar.

3. İslami Dönemin ilk ürünleriyle ilgili aşağıdakilerden hangisi söylenemez?

- A) Arapça, Farsça kelimeler kullanılmaya başlanmıştır.
- B) Bilgilendirme ve öğüt verme amacı taşımaktadır.
- C) Kimin tarafından yazıldığı belli değildir.
- D) Türk edebiyatının önemli eserleri olarak değerlendirilir.

4. Aşağıdaki sanatçı – eser eşleştirmelerinden hangisi yanlıştır?

- A) Yusuf Has Hacı - Kutadgu Bilig
- B) Kaşgarlı Mahmut – Divanü Lügati't Türk
- C) Mevlana - Mantiku't Tayr
- D) Ahmet Yesevi - Divan-ı Hikmet

1. OTURUM

5. Saba Mesih-dem olub bahardan
bu gece
Hıtaya benzedi gülşen nigardan
bu gece
Sabuh içmedi gündüz çemende
gül-ruhsar
Bu nerkisun gözü nedür humardan
bu gece

Bu şiirin türü aşağıdakilerin hangisidir?

- A) İlahi B) Mesnevi
C) Destan D) Gazel

6. XIII. yüzyılda halk edebiyatı çevresinde anonim eserler de önemli yer tutar. Uzun kahramanlık hikâyeleri diyebileceğimiz bu eserlerde genellikle Türklerin yığıtlıkları ve Hristiyanlarla mücadeleleri anlatılır.

Aşağıdakilerden hangisi bu metinde sözü edilen eserlerden biri değildir?

- A) Danişmendname
B) Şeyhname
C) Battalname
D) Saltukname

7. Dede Korkut Hikâyeleri ile ilgili aşağıdakilerden hangisi söylenmez?

- A) Dresten ve Vatikan'da olmak üzere iki nüshası vardır.
B) Eserde on iki hikâye vardır.
C) Hikâyelerde tekrarlanan birtakım söz kalıpları vardır.
D) Tamamı nazım şeklindedir.

8. Aşağıdakilerin hangisi Türk edebiyatının tanınmış mesnevi-lerinden biri değildir?

- A) Harname B) Hayriye
C) Çarhname D) Şikâyetname

9. Şiirlerinde açık, anlaşılır bir dil kullanan sanatçı XIII. ve XIV. yüzyıllarda yaşamıştır. Başta ilahi olmak üzere farklı türlerde eser vermiştir. Farsçanın yaygın olarak kullanıldığı bu dönemde sade Türkçe ile şiirler söylemesi onu ölümünden sonra da yaşatmış, günümüzde dahi rahatlıkla ve çokça okunmasını sağlamıştır. "Divan" ve "Risaletü'n Nushiyye" adlı eserleri vardır.

Bu parçada tanıtılan sanatçı aşağıdakilerden hangisidir?

- A) Ali Şir Nevai
B) Hacı Bayramı Veli
C) Şeyyad Hamza
D) Yunus Emre

10. Aşağıdakilerden hangisi divan edebiyatının özelliklerinden biri değildir?

- A) Nazım birimi olarak sadece beyit kullanılmıştır.
B) Ölçü olarak aruz benimsenmiştir.
C) Mazmun adı verilen kalıplaşmış sözler kullanılmıştır.
D) Hint – İran söylenceleri, İslam tarihinin önemli olayları şiirlerde işlenmiştir.

11. Aşağıdaki divan edebiyatı sanatçılarından hangisi şiirlerinde tasavvufa yer vermemiştir?

- A) Nedim
B) Kadı Burhanettin
C) Şeyhi
D) Şeyh Galip

12. Aşağıdakilerin hangisi divan edebiyatının süslü nesir sanatçılarından biridir?

- A) Mercimek Ahmet
B) Nergisi
C) Naima
D) Peçevi

13. Aşağıdaki cümlelerin hangisinde gazelle ilgili bilgi yanlıştır?

- A) İlk örneklerini XIII. yüzyılda Hoca Dehhani yazmıştır.
B) Kafiye örgüsü aa/bb/cc/dd/ee şeklindedir.
C) Dizelerinin ortasında iç kafiye bulunan gazelle musammat gazel denir.
D) Başlangıçta konusu aşk, güzellik ve kadınsan sonradan farklı konularda da yazılmıştır.

14. Aşağıdakilerden hangisi divan edebiyatında bentle yazılan nazım şekillerinden biri değildir?

- A) Rubai B) Şarkı
C) Müstezat D) Murabba

15. Aşağıdaki seçeneklerin hangisinde bilgi yanlıştır?

- A) Kasideler ya konusuna göre ya da kafiye ve rediflerine göre adlandırılır.
B) Tevhid, Allah'ın birliğinin anlatıldığı kaside türüdür.
C) Peygamber efendimizi anlatan kasidelere naat denir.
D) Hicviye devlet büyüklerini övmek için yazılan kasidelerdir.

16. Dört dizelik divan edebiyatı nazım şeklidir. Fars edebiyatından bize geçmiştir. Birinci, ikinci ve dördüncü dizeler kendi aralarında uyaklı, üçüncü dizesi ise serbesttir. İlk üç dize düşünceyi hazırlar, dördüncü dizede ise asıl mesaj verilir. Şairler genellikle dünya görüşlerini, dinî, tasavvufî ve felsefî görüşlerini, aşk anlayışlarını bu nazım şekliyle kısa ve öz bir şekilde anlatırlar.

Bu parçada anlatılan nazım şekli aşağıdakilerden hangisidir?

- A) Rubai B) Murabba
C) Tuyuğ D) Şarkı

1. OTURUM

(627) SEÇ. TÜRK EDEB. – 7

17. Aşağıdakilerden hangisi halk şiirinin özelliklerinden biri değildir?

- A) Nazım birimi olarak dörtlük kullanılmıştır.
- B) Hece ölçüsü benimsenmiştir.
- C) Şiirler bir saz eşliğinde ezgiyle söylenmiştir.
- D) Söyleyeni bilinmediğinden hepsi anonimdir.

18. Tarih, coğrafya, biyografi gibi sahalarda kaleme aldığı eserlerinin bir kısmı Türkçe, bir kısmı Arapçadır. Bilim dünyasına ışık tutan sanatçı birçok eser yazmıştır. "Cihannuma, Fezleke, Keşfu'z Zünun" bunlardan bazılarıdır.

Bu parçada tanıtılan sanatçı aşağıdakilerden hangisidir?

- A) Evliya Çelebi
- B) Kâtip Çelebi
- C) Âşık Çelebi
- D) 28 Mehmet Çelebi

19. Aşağıdakilerden hangisi öğretici metinlerden değildir?

- A) Tezkire
- B) Seyahatname
- C) Koşma
- D) İlmi eserler

20. ... Kerem yola revan olup giderken Elmalı Dağı'na geldiler. Kerem, Sofu'ya:

... Bu dağı bilir misin? Buna Elmalı Dağı derler. Eğlen bir türkü söyleyeyim de öyle gidelim:

Aldı Kerem:

Gel gidelim Sofu kardeş
Bugün Aslı'm göç eylemiş
Ben ağlarım sen ağlama
Bugün Aslı'm göç eylemiş

Bu parça aşağıdaki türlerin hangisinden alınmıştır?

- A) Orta oyunu
- B) Seyahatname
- C) Halk hikâyesi
- D) Tezkire

1. Aşağıdaki olaylardan hangisi Türk edebiyatını etkilememiştir?

- A) Harf devrimi
- B) Türk Tarihi Tetkik Cemiyeti'nin kurulması
- C) Kılık kıyafet devrimi
- D) Cumhuriyetin ilan edilmesi

2. Aşağıdakilerden hangisi Beş Hececilerin ortak özelliklerinden biridir?

- A) Şiirde kafiyeden uzak durmaları
- B) Son dönem şiirlerinde aruzu kullanmaları
- C) Nazım birimi olarak beyit kullanmaları
- D) Halk şiiri geleneğinden yararlanmaları

3. İçe dönük, maneviyatçı, bireyci şiirin başarılı örneklerini ortaya koymuştur. Şiirlerinde daima hece ölçüsünü kullanmış, heceye ayrı bir güzellik katmıştır. "Çile" şairi olarak da tanınan sanatçının "Kaldırımlar" şiiri de meşhurdur.

Bu parçada tanıtılan sanatçı aşağıdakilerden hangisidir?

- A) Necip Fazıl Kısakürek
- B) Mehmet Akif Ersoy
- C) Kemalettin Kamu
- D) Behçet Necatigil

4. Aşağıdakilerden hangisi Ahmet Hamdi Tanpınar'ın işlediği temalardan biri değildir?

- A) Ölüm
- B) Kahramanlık
- C) Zaman
- D) Rüya

5. Aşağıdakilerden hangisi Yedi Meşalecilerden değildir?

- A) Ülkü Tamer
- B) Cevdet Kudret
- C) Yaşar Nabi Nayır
- D) Muammer Lütfi

6. Şiirlerini 1941 yılında Melih Cevdet Anday ve Oktay Rifat'la birlikte Garip adlı kitapta yayımladı. Türk şiirinde önemli bir yenilik başlattı.

Bu parçada tanıtılan sanatçı aşağıdakilerden hangisidir?

- A) Attila İlhan
- B) Cahit Külebi
- C) Orhan Veli Kanık
- D) Fazıl Hüsni Dağlarca

7. 1950'den sonra yeni arayışlara yönelen Cemal Süreya ve arkadaşları yeni bir akım başlattılar. Anlamda kapalılığın, değişik çağrışımlarla imgeci bir şiir anlayışının savunulduğu akım 1960'lı yıllarda da etkisini sürdürdü.

Bu parçada özellikleri verilen şiir anlayışı aşağıdakilerden hangisidir?

- A) Garip hareketi
- B) Serbest nazım ve toplumcu şiir
- C) Yedi Meşaleciler
- D) İkinci Yeniler

8. Cumhuriyet Dönemi'nin en büyük romancılarından olan sanatçı, eserlerinde Türkiye'nin Tanzimat'tan itibaren geçirdiği değişimleri anlattı. "Kıralık Konak, Yaban, Ankara" önemli eserlerinden bazılarıdır.

Bu parçada tanıtılan sanatçı aşağıdakilerden hangisidir?

- A) Reşat Nuri Güntekin
- B) Halide Edip Adivar
- C) Yakup Kadri Karaosmanoğlu
- D) Refik Halit Karay

9. Aşağıdakilerden hangisi toplumsal gerçekçi yazarlarımızdan biri değildir?

- A) Orhan Kemal
- B) Tarık Buğra
- C) Yaşar Kemal
- D) Kemal Tahir

1. OTURUM

10. 1920'li ve 1930'lu yıllarda sergilenen oyunlarda toplum sorunları ekonomik yapı bağlamında değerlendirilmiştir. Diğer oyun yazarlarından farklı olarak bu sanatçı, toplumdaki hızlı değişimin ekonomik nedenlerden çok ahlaki sonuçları üzerinde durmuştur. "Tohum" ve "Bir Adam Yaratmak" adlı eserleri bilinen oyunlarından.

Bu parçada tanıtılan sanatçı aşağıdakilerden hangisidir?

- A) Necip Fazıl Kısakürek
B) Haldun Taner
C) Muhsin Ertuğrul
D) Musahipzade Celal

11. Aşağıdakilerden hangisi Orhan Kemal'in eserlerinden biri değildir?

- A) 72. Koğuş
B) Bekçi Murtaza
C) Reis Bey
D) Kardeş Payı

12. Aşağıdakilerin hangisinde sanatçı – eser eşleştirmesinde yanlışlık yapılmıştır?

- A) Refik Erduran – Keşanlı Ali Destanı
B) Orhan Asena – Hürrem Sultan
C) Turan Ofıazoğlu – Sokrates'in Savunması
D) Güngör Dilmel – Deli Dumrul

13. 20. yüzyılın son yirmi yılında yazdığı yirmiden fazla oyunuyla seyirciyi, alışkanlıkların engeline takılmadan yeni bir gözle hayata bakmaya, vicdanları doğrulara açmaya, en çok da körelmiş zekâları bilemeye çalıştı. Oyunlarının renkli dünyasında sanatçılar, aydın geçinenler, bilim adamları, garsonlar, yeraltı dünyasının kabadayıları, oyuncular, gezginler, astronotlar ve gezginler yer alır. "Cumhuriyet Kızı, Yangın Yerde Orkideler, Maskeli Süvari" oyunlarından bazılarıdır.

Bu parçada tanıtılan sanatçı aşağıdakilerden hangisidir?

- A) Murathan Mungan
B) Mehmet Baydur
C) Cihan Canova
D) Behiç Ak

14. Aşağıdakilerden hangisi eserlerinde köyü konu edinen sanatçılardan biri değildir?

- A) Fakir Baykurt
B) Talip Apaydın
C) Oğuz Atay
D) Samim Kocagöz

15. Bazı sanatçılar Beş Hececiler grubuna dahil olmadıkları hâlde heceyle yazılan şiire büyük bir aşama kazandırmışlardır.

Aşağıdakilerden hangisi bu sanatçılardan biri değildir?

- A) Ahmet Kutsi Tecer
B) Orhan Veli Kanık
C) Necip Fazıl Kısakürek
D) Ahmet Hamdi Tanpınar

16. Aşağıdakilerin hangisinde bilgi yanlışı vardır?

- A) Önceleri olay hikâyesi yazan Sait Faik Abasıyanık, daha sonra durum hikâyesi yazmıştır.
B) Halide Edip Adıvar roman kahramanlarını hep erkeklerden seçer ve eser sonunda onları ödüllendirir.
C) Eserlerinde Anadolu kasaba ve şehirlerini fon olarak kullanan Reşat Nuri Güntekin Çalığışu romanıyla ünlenmiştir.
D) Sabahattin Ali, Anadolu köy ve kasaba hayatının acıklı hâllerini gerçekçi ve gözlemci bir şekilde yazdı.

17. Yazarın bir konu üzerinde kesin sonuçlara varmadan kendi kişisel görüş ve düşüncelerini anlattığı yazı türüdür. Her türlü konuda yazılabilir. Hayat, ölüm, aşk, gurbet, sanat vb. konular bu türde işlenebilir. Eskiden bu yazılara kalem tecrübesi adı verilirdi.

Bu parçada sözü edilen yazı türü aşağıdakilerden hangisidir?

- A) Makale
B) Sohbet
C) Fıkra
D) Deneme

18. Aşağıdakilerden hangisi anı türünde bir eser değildir?

- A) Halit Ziya Uşaklıgil – Kırk Yıl
B) Hüseyin Cahit Yalçın – Edebî Hatıralar
C) Ömer Seyfettin – Falaka
D) Ahmet Rasim – Eşkal-i Zaman

19. Gazete ve dergilerin belli sütunlarında yayımlanan, daha çok güncel konuları ele alan yazılardır. Bilimsel gerçekleri ortaya koyma gibi bir iddiası yoktur. Temel amaç okuyucunun dikkatini çekmek ve onu yönlendirmektir. Köşe yazısı olarak da adlandırılan bu yazılar, samimi bir dil ve üslupla yazılır.

Bu parçada sözü edilen yazı türü aşağıdakilerden hangisidir?

- A) Makale
B) Sohbet
C) Deneme
D) Fıkra

20. Aşağıdakilerden hangisi anı ve günlük türlerinin ortak yönlerinden değildir?

- A) Bir kimsenin kendi başından geçen ya da çevresinde gözlemlediklerini anlattığı yazılardır.
B) Bu yazıların aranan özelliklerinden biri de içtenlik ve gerçekçiliktir.
C) Yaşanan olaylar vakit geçirilmeden günü gününe yazılmalıdır.
D) Yazarıyla ilgili okuyucuya çeşitli bilgiler verir.

1. OTURUM

(628) SEÇ. TÜRK EDEB. – 8

1. Gelse de en acı sözler dilime,
Uçacak sanırım birkaç kelime...
Bir alev hâlinde düştün elime,
Hani, ey gözyaşım akmayacaktın?

Bu şiirde hâkim olan duygu aşağıdakilerden hangisidir?

- A) Aşk B) Hüzün
C) Umut D) Sevgi

2. Bir gizli değneğim olsa;
Vurduğum yerde güller açılrsa,
Uçan güller.
Bir sihirli değneğim olsa;
Vursam bir nar ağacına,
Narlar çatlasa kahkahadan...

Bu şiir aşağıdaki şiir anlayışlarından hangisine örnek gösterilebilir?

- A) Öz şiir
B) Serbest nazım ve toplumcu şiir
C) Milli Edebiyat zevk ve anlayışını sürdüren şiir
D) Garip hareketi

3. Aşağıdakilerden hangisi saf şiir akımının temsilcilerindendir?

- A) Ahmet Haşim
B) Hasan İzzettin Dinamo
C) Ahmet Arif
D) Enis Behiç Koryürek

4. Aşağıdakilerden hangisi Garip şiirinin özelliklerinden değildir?

- A) Şakaya ve nükteye çok yer verir; sahte değerlerle, samimiyetsizlikle, aşırı duyarlılıkla alay eder.
B) Şiirlerde serbest ölçü kullanılmış, hece ölçüsüne yer verilmemiştir.
C) Silik yaşamak, büyük konulardan kaçmak, küçük tasa ve sevinçler şiirin başlıca temaları hâline getirilmiştir.
D) Redife yer verilmemiş, ahenk kafiyeyle sağlanmıştır.

5. Aşağıdakilerden hangisi Garip şiirinin temsilcilerinden değildir?

- A) Orhan Veli Kanık
B) Kemalettin Kamu
C) Melih Cevdet Anday
D) Oktay Rifat Horozcu

6. Günümüze ulaşan çizgisinde yeni ve tek kalabilen bir şairdir. Şiirinde mağara devri adamlarından modern çağın insanına kadar insanlığın iç ve dış dünyasını, yurt ve dünya insanını işledi. Kendine özgü hayal ve semboller kullandı. "Havaya Çizilen Dünya, Çocuk ve Allah" önemli eserlerindedir.

Bu parçada tanıtılan sanatçı aşağıdakilerden hangisidir?

- A) Fazıl Hüsnü Dağlarca
B) Asaf Halet Çelebi
C) Behçet Necatigil
D) Necati Cumalı

7. I. Şiirde imge çok önemsenmiştir.
II. Günlük konuşma diline yer verilmemiştir.
III. Söz sanatlarından uzak durulmuştur.
IV. Dadaizm ve sürrealizm akımlarından etkilenilmiştir.

Yukarıda numaralanmış ifadelerden hangisi İkinci Yeni'nin özelliklerinden biri değildir?

- A) I. B) II. C) III. D) IV.

8. İkinci Yeni'ye has dil ve söylem özelliklerini kullanarak İslam dinini esas alan konulara yöneldi. Onun şiiri İslam'ın geleneksel metinlerinde görülen çevre ilişkisinin üzerine kurulmuştur. İslam mitolojisini kucaklayan sanatçının şiirinin sağlam bir metafizik zemini vardır. "Çocukluğum, Mona Rosa" önemli şiirlerinden bazılarıdır.

Bu parçada tanıtılan sanatçı aşağıdakilerden hangisidir?

- A) Turgut Uyar
B) Ece Ayhan
C) Sezai Karakoç
D) Ülkü Tamer

9. Aşağıdakilerden hangisi İkinci Yeni sonrası toplumcu şiir sanatçılarından değildir?

- A) İsmet Özel
B) Mehmet Akif Ersoy
C) Atıf Behramoğlu
D) Süreyya Berfe

10. Yedi yaşındayken geçirdiği çiçek hastalığı yüzünden gözlerini kaybetti. Kalan yetmiş iki yıllık hayatını kendi iç aydınlığını çoğaltarak geçirdi. Yer yer yerel sözcüklerle süslediği, sade bir Türkçe ile yazdığı şiirlerini geleneksel âşık şiiri nazım şekillerinden koşma, semai, destan şeklinde söyledi. Şiirlerinin kaynağını Yunuslarda, Mevlanalarda, Karacaoğlanlarda buldu.

Bu parçada tanıtılan sanatçı aşağıdakilerden hangisidir?

- A) Âşık Veysel
B) Şeref Taşlıova
C) Murat Çobanoğlu
D) Mahzuni Şerif

11. Suya gider al yazması başında İsmi kadın kendi on beş yaşında Dünyayı terk etti pek genç yaşında Dayanmalı Hakk'ın emri böyledir

Bu şiirde işlenen tema aşağıdakilerden hangisidir?

- A) Özlem B) Gurbet
C) Ölüm D) Aşk

12. Aşağıdakilerden hangisi klasik hikâyenin bölümlerinden değildir?

- A) Düğüm B) Mekân
C) Çözüm D) Serim

1. OTURUM

13. Sanat hayatına Maupassant tarzı hikâyeye başladı. Net bir şekilde giriş, gelişme, sonuç bölümlerinin bulunmadığı hikâyeler yazdı. Sonraki dönemlerde durum hikâyesi yazdı. Şiirsel anlatım tarzını sürdürdü. Denizcileri, balıkçıları, avare insanları anlattığı hikâyelerinin kahramanları çoğunlukla kendisidir. "Havada Bulut, Semaver, Sarnıç" önemli eserlerindendir.

Bu parçada tanıtılan sanatçı aşağıdakilerden hangisidir?

- A) Sait Faik Abasıyanık
- B) Memduh Şevket Esendal
- C) Ömer Seyfettin
- D) Yakup Kadri Karaosmanoğlu

14. Aşağıdaki sanatçılardan hangisi hikâyeye türünde eser vermemiştir?

- A) Ömer Seyfettin
- B) Refik Halit Karay
- C) Yahya Kemal Beyatlı
- D) Sait Faik Abasıyanık

15. Aşağıdakilerden hangisi Orhan Pamuk'un eserlerinden biri değildir?

- A) Kara Kitap
- B) Cevdet Bey ve Oğulları
- C) Yeni Hayat
- D) Kaplumbağalar

16. Oğuz Atay'ın bu romanı; ele aldığı konu, konuyu işleyiş tarzı ve iç monolog, bilinç akışı, alıntı gibi yeni anlatım tekniklerini kullanması bakımından dikkate değerdir. Sanatçı, romanında birtakım dinsel ve mitolojik unsurlardan yararlanarak yerleşik düzenin değer yargılarıyla, zevkleriyle, yaşama biçimleriyle uzlaşmayan, topluma yabancılaşmış insanların yaşamını anlatır.

Bu parçada tanıtılan eser aşağıdakilerden hangisidir?

- A) Bir Bilim Adamının Romanı
- B) Yorgun Savaşçı
- C) Tutunamayanlar
- D) Küçük Ağa

17. Güzel yüzün görülmezdi
Bu aşk bende dirilmezdi
Güle kıymet verilmezdi
Âşık ve maşuk olmasa

Bu dizelerle ilgili aşağıdakilerden hangisini söylemek yanlış olur?

- A) 8'li hece ölçüsüyle yazılmıştır.
- B) Sevgiliye duyulan aşktan söz edilmiştir.
- C) Halk şiirinin etkisiyle yazılmıştır.
- D) Çapraz uyak düzeniyle söylenmiştir.

18. İstanbul'un güzelliklerini anlatan "Bir Başka Tepeden" adlı şiir aşağıdaki sanatçılardan hangisine aittir?

- A) Ercüment Behzat Lav
- B) Orhan Veli Kanık
- C) Necip Fazıl Kısakürek
- D) Yahya Kemal Beyatlı

19. SEYFİ BABA

Geçen Akşam geldim. Dediler:

-Seyfi Baba

Hastalanmış yatıyormuş.

-Nesi varmış acaba?

Yukarıda bir bölümü verilen manzum hikâyeye aşağıdaki sanatçılardan hangisine aittir?

- A) Necip Fazıl Kısakürek
- B) Mehmet Akif Ersoy
- C) Kemalettin Kamu
- D) Behçet Necatigil

20. Aşağıdakilerin hangisinde sanatçı – eser eşleştirmesi doğru yapılmıştır?

- A) Cahit Külebi - Birdenbire
- B) Necip Fazıl Kısakürek - Kaldırımlar
- C) Ahmet Haşim – Safahat
- D) Ahmet Muhip Dıranas – Karadut

(711) İSLAM TARİHİ – 1

1. İslam tarihi bilimi;

- I. Dört Halife Dönemi siyasi olayları
- II. Müslüman Türk devletlerinden Gaznelilerin faaliyetleri
- III. Günümüz İslam coğrafyasındaki devletler
- IV. Endülüs Emevilerinin meydana getirdiği medeniyet

gibi konulardan hangilerini araştırma konusu yapar?

- A) Yalnız I
- B) I, II ve III
- C) II, III ve IV
- D) I, II, III ve IV

2. "Sana haram ayı, yani onda savaşmayı soruyorlar. De ki: O ayda savaşmak büyük bir günahdır. ..."

(Bakara Suresi, 217. ayet)

Aşağıdakilerden hangisi ayete konu olan ve savaşılmasının yasaklandığı haram aylardan biri değildir?

- A) Recep
- B) Şaban
- C) Zilkade
- D) Zilhicce

3. Aşağıdaki eser - yazar eşleştirmelerinden hangisi doğrudur?

- A) Kitabü'l - Harac → Ebu Yusuf
- B) Kitabü'l - Meğazi → İbn Sa'd
- C) Kitabü't - Tabakat → İbn İshak
- D) Tarihu'l - Umem ve'l - Mülûk → Belâzuri

4. İslam tarihinin dil bilimi ile olan ilişkisini, aşağıdaki bilim dallarından hangisi sağlar?

- A) Arkeoloji
- B) Sosyoloji
- C) Filoloji
- D) Kronoloji

5. Taif şehri, İslam dininin doğduğu yıllarda aşağıdaki hangi kabilenin yurdu idi?

- A) Evs
- B) Sakif
- C) Hazreç
- D) Kaynuka

1. OTURUM

6. Hz. Muhammed kaç yaşına kadar sütannesi Halime'nin yanında kalmıştır?

- A) 2 B) 3 C) 4 D) 5

7. Aşağıdakilerden hangisi İslam tarihinde "ilk dört Müslümanlar" olarak anılan kişilerden değildir?

- A) Hz. Ali B) Hz. Hatice
C) Hz. Hamza D) Hz. Ebubekir

8. İslam tarihinde Hz. Muhammed'in Allah'ın ilahi hitabına muhatap olmasına ne ad verilir?

- A) Miraç B) Akabe
C) Hilye D) İsrâ

9. Aşağıdaki yerlerden hangisinin Müslümanlarca ele geçirilmesi, bütün Arabistan'ın fethini sağlayan önemli bir başlangıç olmuştur?

- A) Taif B) Mekke
C) Hayber D) Kudüs

10. Hz. Muhammed'in vefatıyla İslam dünyasında ortaya çıkan ilk sorun, aşağıdakilerden hangisi olmuştur?

- A) Yalancı peygamberler
B) Kur'an'ın kitap hâline getirilmesi
C) Halife seçimi
D) Türbe inşaatı

11. Mescid-i Nebevi, aşağıdaki şehirlerin hangisinde yer alır?

- A) İskenderiye B) Bağdat
C) Kudüs D) Medine

12. Mekke müşriklerinin İsrâ hadisesini kendisine ilettiklerinde "O söylüyorsa doğrudur." sözleriyle imanda sadakatın zirvesine ulaşan halife, aşağıdakilerden hangisidir?

- A) Hz. Ali B) Hz. Osman
C) Hz. Ömer D) Hz. Ebubekir

13. Aşağıdakilerden hangisi, Halife Hz. Ömer Dönemi olaylarından biridir?

- A) Kur'an-ı Kerim'in çoğaltılması
B) Mısır ve İran'ın ele geçirilmesi
C) Araplar arasında iç savaşların başlaması
D) Yalancı peygamberlerin ortadan kaldırılması

14. Aşağıdaki Emevi halifelerinden hangisi, İslam'ın Müslüman olmayanlar arasında, barış ortamında ve tebliğ yoluyla yayılmasını arzu etmiştir?

- A) I. Velid
B) Muaviye
C) Ömer bin Abdülaziz
D) Süleyman bin Abdülmelik

15. İstanbul'da bulunan Eyüp Sultan Türbesi, aşağıdakilerden hangisine aittir?

- A) Eyyüb el-Ensari'ye
B) Muhammed Eyüb Han'a
C) Eyüp peygamber'e
D) Şeyh Eyüp'e

16. Emevilerin Avrupa'daki ilerleyişlerinin son bulmasına neden olan savaş, aşağıdakilerden hangisidir?

- A) Sıffin Savaşı
B) Yermük Savaşı
C) Puvatya Savaşı
D) Nihavend Savaşı

17. Cami mimarisine minare ve mihrap ekleme geleneği, aşağıdakilerden hangisiyle başlamıştır?

- A) Harzemşahlarla
B) Osmanlılarla
C) Abbasilerle
D) Emevilerle

18. Ubeydullah Mehdi tarafından 909 yılında Kuzey Afrika'da kurulmuş olan devlet, aşağıdakilerden hangisidir?

- A) İhsidiler B) Samanîler
C) Fatimîler D) Büveyhîler

19. Abbasi halifesi Memun'un Bağdat'ta kurduğunu bilim merkezinin adı, aşağıdakilerden hangisidir?

- A) Beyt-i Seyfi
B) Beyt-i Şitevi
C) Beytü'l - Lahm
D) Beytü'l - Hikme

20. Aşağıdakilerden hangisi Abbasi Devleti'nin dağılma ve yıkılma sebepleri arasında yer almaz?

- A) Abbasilerin ırkçı bir politika izlemeleri
B) Moğolların Ön Asya'ya yürümesi
C) Batınîlerin çalışmaları
D) Şiîlerin faaliyetleri

(811) KELAM – 1

1. Kalam, mü'minleri taklidi imandan tahkiki imana ulaştırma arzusuyla, Cenab-ı Hakk'ın zat ve sıfatlarından, risalet ve nübüvvetten, mebbe ve meâd itibarıyla kainatın hallerinden bahseden ilimdir.

Bu paragrafta kelimelerle ilgili aşağıdakilerden hangisine yer verilmemiştir?

- A) Tanımı B) Konusuna
C) Amacına D) Metoduna

2. Aşağıdakilerden hangisi Kalam'ın temellerinin Hz. Muhammed (sav.) döneminde atıldığına işaret etmektedir?

- A) Kur'an'da batıl inanç ve davranışları eleştiren ve bunlarla uygun fikri mücadeleyi emreden ayetlerin yer alması
B) Fetihler sebebiyle Müslümanların çeşitli din ve kültürlerle sahip milletlerle temasta bulunması
C) Müslümanların halifelik meselesini tartışmaları
D) İslam düşüncesinin felsefeyle yakınlık kurması

3. Kalam alanında ilk eserleri hangi mezhebe mensup alimler vermiştir?

- A) Eş'ari B) Mutezile
C) Maturidi D) Havariç

1. OTURUM

4. "Hakkında kesin bilgi sahibi olmadığın şeyin peşine düşme. Çünkü kulak, göz ve kalp bunların hepsi ondan sorumludur."

(İsrâ suresi, 36. ayet)

Bu ayet aşağıdaki konulardan hangisine örnek oluşturur?

- A) Allah - Alem ilişkisi
- B) Bilgi - Değer ilişkisi
- C) Bilgi - İnanç ilişkisi
- D) Kelam - Felsefe ilişkisi

5. Hanefi mezhebinin ilk dönem içtihatlarında Irak örfünün, sonraki içtihatların da ise Maveraünnehir Bölgesi'nin izleri görülür.

Bu paragraf, mezheplerin ortaya çıkışında etkili olan sebeplerden hangisine örnek oluşturur?

- A) İnsanın yapısı
- B) Siyasi sebepler
- C) Ortam ve kültür
- D) Kur'an'ın özelliği

6. Aşağıdaki mezheplerden hangisi Şii fırkalar arasında yer almaz?

- A) İmamiye
- B) Cebriye
- C) İsmailiye
- D) Zeydiye

7. Mürcie mezhebinin görüşleri arasında aşağıdakilerden hangisi yer almaz?

- A) İman yönünden Müslümanlar eşit değildir.
- B) Müslüman, büyük günahı sebebiyle imandan çıkmaz.
- C) İman, dilin ikrarı veya kalbin tasdiki veya her ikisidir.
- D) Allah, cehennemli haketmiş kişiyi dilerse affedilebilir.

8. Büyük günah sahibi ne mü'min ne kafirdir. O, iki yer arasında bir yerdedir.

Mutezile'nin bu görüşü aşağıdaki ilkelerden hangisinde dile getirilmiştir?

- A) Adalet
- B) el - Va'd ve'l - Vaid
- C) el - Menziletü Beyne'l Menziletayn
- D) el - Emri bi'l Maruf ve'n - Nehyi anil Münker

9. Aşağıdaki görüşlerden hangisi Eş'ari mezhebine ait değildir?

- A) İnsan, kendi fiillerinin yaratıcısıdır.
- B) Kur'an, Allah'ın kelamı olup yaratılmamıştır.
- C) Allah ahirette mü'minler tarafından görülecektir.
- D) Büyük günah işleyen kişi imandan çıkmaz, fasiktir.

10. • 780 yılında Bağdat'ta doğmuş, 855 yılında vefat etmiştir.
• Hadis ve fıkıh alanında tanınmıştır.
• "Müsned" adlı eseri meşhurdur.

Hakkında bilgi verilen mezhep imamı aşağıdakilerden hangisidir?

- A) Malik b. Enes
- B) Numan b. Sabit
- C) Cafer-i Sadık
- D) Ahmed b. Hanbel

11. İnsanın; şeriat, tarikat, marifet ve hakikat kapılarından geçerek Allah'a ulaşacağını söyleyen mutasavvıf aşağıdakilerden hangisidir?

- A) Yunus Emre
- B) Hacı Bektaş Veli
- C) Hacı Bayram Veli
- D) Hoca Ahmet Yesevi

12. Alevi - Bektaşî kültüründe yol kardeşi olmak isteyen iki ailenin kurban keserek kardeş olmaya söz verdikleri ceme ne isim verilir?

- A) Görgü Cemi
- B) Musahiplik Cemi
- C) Abdal Musa Cemi
- D) Düşkünlükten Kaldırma Cemi

13. Aşağıdaki ayetlerin hangisinde mü'min bir kimsenin davranışı anlatılmaktadır?

- A) "Onlar gayba inanırlar, namaz kılarlar, verdiklerimizden Allah yolunda harcarlar."
(Bakara suresi, 3. ayet)
- B) "İnsanlardan bazıları da vardır ki, inanmadıkları halde; Allah'a ve ahiret gününe inandık derler."
(Bakara suresi, 8. ayet)
- C) "... Allah ile peygamberlerin arasını ayırmak isteyen ve bir kısmına inanırsın, bir kısmını inkar ederiz diyenler yok mu?..."
(Nisâ suresi, 150. ayet)
- D) "Kendi heves ve arzularını ilah edineni gördün mü?"
(Furkan suresi, 43. ayet)

14. Aşağıdakilerden hangisi mü'minlerin sıfatı olamaz?

- A) İffet
- B) Vakar
- C) Haset
- D) Vefa

15. Aşağıdaki görüşlerden hangisi İmam Maturidi'ye aittir?

- A) Büyük günah işleyen kafir olur.
- B) İmanda artma ve eksilme vardır.
- C) Akıl iyi ve kötünün bilgisine sahip değildir.
- D) Akıl, kişiyi Allah'ın varlığına ulaştırır.

16. Taklidi İman ile ilgili aşağıda verilen bilgilerden hangisi yanlıştır?

- A) Kişinin bilgi sahibi olmadan çevresinden görerek sahip olduğu imandır.
- B) Kişiyi araştırma ve inceleme yapmaya teşvik eder.
- C) Bireysel düşüncenin gelişmesine engel olur.
- D) Taassubu artırır.

1. OTURUM

(931) SİYER – 1

17. “Ben mükemmel bir varlık olmadığım halde mükemmelle ulaşma arzusundayım. Bu düşünce bana ancak mükemmel olan bir varlık tarafından gelmiş olmalıdır.”

Bu şekilde düşünen bir kimse Allah'ın varlığının delillerinden hangisini dile getirmektedir?

- A) Kemal B) İmkan
C) Hudus D) Temanu

18. Allah'ın isimlerinden hangisi anlam bakımından diğerlerinden farklıdır?

- A) Rauf B) Rahim
C) Rahman D) Rezzak

19. Kur'an-ı Kerim'de melekler ile ilgili verilen bilgiler arasında aşağıdakilerden hangisi yer almaz?

- A) İnsanların yaptıklarını kaydettikleri
B) Yaptıklarından hesaba çekilecekleri
C) Peygambere salat edip destek verdikleri
D) Mü'minlerin bağışlanması için dua ettikleri

20. “Yeryüzünde gezip bir bakmadılar mı, kendilerinden öncekilerin sonu nasıl olmuş? Halbuki onlar, bunlardan daha kuvvetliydim. Ne göklerde ve ne de yerde hiç bir şey Allah'ı aciz bırakamaz. Çünkü O her şeyi bilendir, her şeye gücü yetendir.”

(Fâtır suresi, 44. ayet)

Bu ayette Allah'ın sıfatlarının hangilerinden bahsedilmektedir?

- A) Kıdem - Beka
B) Semi - Beşar
C) İlim - Kudret
D) Kelam - Tekvin

1. **El-Müsned isimli hadis kitabı aşağıdaki âlimlerden hangisine aittir?**

- A) Ahmed b. Hanbel
B) Malik b. Enes
C) Ebu Davud
D) İbn Mace

2. **Aşağıdakilerden hangisi eski devirlerde yaşamış Arab-ı bâide denen ve Kur'an'da da ismi geçen kavimlerden biri değildir?**

- A) Âd B) Semûd
C) Medyen D) Cürhüm

3. **İslam öncesinde Arap yarımadasının Mekke, Taif ve Medine şehirlerinde aşağıdaki inançlardan hangisi daha çok yaygındır?**

- A) Hristiyanlık B) Yahudilik
C) Mecusilik D) Putperestlik

4. • Hz. Peygamber hayatının büyük bir bölümünü burada geçirmiştir.
• Kâbe'den dolayı Hicaz bölgesinin dinî ve ticârî merkezi olmuştur.

Hakkında bilgi verilen şehir aşağıdakilerden hangisidir?

- A) Mekke B) Medine
C) Taif D) Şam

5. **Arap yarımadasında köy, kasaba ve şehirlerde yerleşik hayat yaşayanlara ne denir?**

- A) Mevalî B) Bedevî
C) Hadarî D) İbranî

6. **İslam öncesi Hicaz bölgesinde kadınların konumları hakkında verilen bilgilerden hangisi yanlıştır?**

- A) Hür kadınlar erkeklere denk değildir.
B) Hür kadınlar cariyelerden üstündürler.
C) Hürler ve cariyeler olmak üzere iki sınıftır.
D) Hür kadınlar mirastan erkeklerin yarısı kadar pay alırlar.

7. **Hanifler hakkında aşağıda verilen bilgilerden hangisi yanlıştır?**

- A) Okur yazar kimseler değillerdir.
B) Putlara tapmayı reddetmişlerdir.
C) Cahiliye inanç ve adetlerine karşı çıkmışlardır.
D) Yahudilik ve Hristiyanlıktan uzak durmuşlardır.

8. **Fil olayı esnasında Mekke'nin reisi aşağıdakilerden hangisidir?**

- A) Abdulmuttalip
B) Ebu Talib
C) Kusay
D) Haşim

9. **Aşağıdakilerden hangisi Kâbe'nin isimlerinden biri değildir?**

- A) Beytül-Atik
B) Beytül-Haram
C) Beytül-Makdis
D) Beytül-Muharrem

10. **Hz Muhammed (sav.)'in aşağıdaki amcalarından hangisi Müslüman olmuştur?**

- A) Haris B) Abbas
C) Zübeyr D) Ebu Talib

11. **Aşağıdakilerden hangisi Hz. Peygambere vahiy geldikten sonra gerçekleşmiştir?**

- A) Hz. Ayşe ile evlenmesi
B) Hilfu'l-Fudul'a katılması
C) Ficar savaşına katılması
D) Amcasıyla ticaret yapması

12. **Hz. Peygamber aşağıdaki çocuklarının hangisinden önce vefat etmiştir?**

- A) Ümmü Gülsüm
B) Fatıma
C) Rukiye
D) Zeynep

1. OTURUM

13. Hz. Muhammed (sav.) çocukluğunu yanında geçirdiği Ebu Talib'in hanımı Fatıma binti Esed'i ve dadısı Ümmü Eymen'i her zaman hayırla yâd etmiş ve onlarla ilgilenmiştir.

Hız Peygamberin bu davranışı onun hangi özelliğini ön plana çıkarmaktadır?

- A) Doğruluğunu
B) Güvenirliğini
C) Vefakârlığını
D) Cömertliğini

14. • Putperestliği reddetmiştir.
• Hz. Hatice'nin amcasının oğludur.
• Yahudilik ve Hristiyanlık hakkında bilgi sahibidir

Hakkında bilgi verilen kişi aşağıdakilerden hangisidir?

- A) Hz. Ebu Bekir
B) Varaka b. Nevfel
C) Ömer b. Hattap
D) Abdullah b. Selam

15. **Aşağıdakilerden hangisi Hz. Muhammed (sav.)'e indirilen ilk ayetlerden biri değildir?**

- A) "Yaratan Rabbinin adıyla oku!" (Alak suresi, 1. ayet)
B) "O, insanı "alak"tan yarattı". (Alak suresi, 2. ayet)
C) "Şüphesiz dönüş ancak Rabbinedir. (Alak suresi, 8. ayet)
D) "O, kalemle yazmayı öğretendir, insana bilmediğini öğretendir." (Alak suresi, 4-5. ayet)

16. "Ey bürünüp sarılan (Resulüm)! Kalk ve (insanları) uyar..."

Bu ayetle ilgili olarak aşağıda verilen bilgilerden hangisi yanlıştır?

- A) Hz Peygamberin tebliğ görevi başlamıştır.
B) Fetretü Vahiy'den sonra gelen ilk ayettir.
C) Müddessir suresinin 1 ve 2. ayetidir.
D) Gece yarısı rüyada nazil olmuştur.

17. "Hz. Muhammed (sav.) hangi olaydan sonra açıktan tebliğe başlamıştır?

- A) Taif yolculuğundan sonra
B) Hz. Ömer'in Müslüman olmasıyla
C) İlk vahyin gelmesiyle
D) Hz Hatice'nin vefatıyla

18. **İslam'a davetin açıktan yapılmasını emreden ayet aşağıdakilerden hangisidir?**

- A) "Yaratan Rabb'inin adıyla oku! O insanı "alak"tan yarattı." (Alak suresi, 1, 2.ayetler)
B) "O gün birtakım yüzler vardır ki, pırıl pırıl parlarlar, gülerler, sevinirler." (Abese suresi, 38, 39 ayetler)
C) "Ey örtünüp bürünen (Peygamber!) Kalk da uyar." (Müddessir suresi, 1, 2. ayetler)
D) "Sana emrolunanı açıkça söyle ve müşriklere aldırma" (Hicr suresi, 94.ayet)

19. **Habeşistan'a hicret eden ilk kabilede Hz. Peygamberin kızlarından hangisi yer almıştır?**

- A) Hz. Zeynep
B) Hz. Fatıma
C) Hz. Rukiye
D) Hz. Ümmü Gülsüm

20. **Aşağıdaki olaylardan hangisi diğerlerinden sonra gerçekleşmiştir?**

- A) Hz. Peygamberin Taif yolculuğu ve tekrar Mekke'ye dönüşü
B) Ebu Talip ve Hz. Hatice'nin vefat etmesi
C) Akabe görüşmesinin yapılması
D) İlk Cuma Namazının kılınması

(974) GİRİŞİMCİLİK – 1

1. **Ekonomik durumu üst düzeyde olan insanların karşılanmasını istedikleri ihtiyaçlara ne ad verilir?**

- A) Emek
B) Sermaye
C) Lüks ihtiyaçlar
D) Zorunlu ihtiyaçlar

2. **Aşağıdakilerden hangisi üretim faktörlerinden biridir?**

- A) Doğa B) Talep
C) Hizmet D) Kültür

3. **Elektronik ticarete ne ad verilir?**

- A) İnternet B) E-ticaret
C) E-devlet D) E-posta

4. **Ekonomistler, bir mal veya hizmeti elde edebilme isteğini neden talep olarak kabul etmezler?**

- A) İstekler yeterli satın alma gücüyle desteklenmelidir.
B) Arz - talep dengesi korunmalıdır.
C) Alıcı ile satıcı birbirini tanımalıdır.
D) Satın alma sürekli ve güdüleyici olmalıdır.

5. **Ekonomistler kıt malı nasıl tanımlamışlardır?**

- A) Kıymetli mallar
B) Piyasada olmayan mallar
C) Çok pahalı satılan mallar
D) Fiyatı olan ve bedelini ödemek suretiyle alınabilen mallar

6. **Bazı bilim adamlarınca girişimcilik kavramının yaratıcısı olarak görülen ünlü ekonomist, aşağıdakilerden hangisidir?**

- A) John Law
B) Eli Whitney
C) Richard Cantillon
D) Edward Harriman

1. OTURUM

7. "Girişimcilik; sürekli artan bir refah yaratan dinamik bir süreçtir."

"Girişimcilik; bir işe girişme, bunun için gerekli kaynakları düzenleme, işten doğacak riskleri ve başarısızlıkları üstlenme sürecidir."

"Girişimcilik; parasal ve kişisel tatmin ödülü karşılığında, finansal, psikolojik ve sosyal riskleri üstlenerek gerekli zaman ve çabayı harcayıp farklı değerde mal ve hizmet yaratma sürecidir."

Aşağıdakilerden hangisi, verilen "Girişimcilik" kavramıyla ilgili tanımların ortak noktalarından biri değildir?

- A) Tekelleşmek
B) İnisiyatif sahibi olmak
C) Risk ve başarısızlığı kabul etmek
D) Piyasadaki kaynakları değerlendirmek

8. Aşağıdaki kavramlardan hangisi ekonomi literatüründe "yenilenme", "yenilik" anlamlarında kullanılır?

- A) Deflasyon
B) İnovasyon
C) İthal ikamesi
D) Devalüasyon

9. Aşağıdakilerden hangisi, girişimde bulunması gereken kişisel özelliklerinden biri değildir?

- A) Hayalcilik B) Kendine güven
C) Karamsarlık D) Esneklik

10. "Yasal teşviklerden yararlanarak arkadaşlarıyla pastane dükkanı açan Leyla hanım" örneğini, aşağıdaki girişimciliği teşvik eden faktörlerden hangisi için verebiliriz?

- A) Mevzuat B) Güven
C) Aile D) Din

11. Aşağıdaki tabloda;

- A. Geleneksel Yöneticilerin;
B. Girişimcilerin,
C. İç Girişimcilerin

"Kararlar" ile "Başarısızlık ve Hatalar" konusundaki tutumları verilmiştir.

	A.	B.	C.
Özellikler	Geleneksel Yöneticiler	Girişimciler	İç Girişimciler
Kararlar	Üstlerin almış olduğu kararları kabullenir.	?	Hayallerini başarmada başkalarını ikna etmeye çalışır.
Başarısızlık ve Hatalar	?	Hata ve başarısızlıkları kabul etmez ve üzerine gider.	Hazır olana kadar riskli projelerin üzerine gitmez.

Tabloda boş bırakılan yerlere gelmesi gereken uygun ifadeler, aşağıdakilerin hangisinde birlikte verilmiştir?

- A) (I) Direkt katılım söz konusudur. - (II) Kendini ve müşterilerini memnun eder.
B) (I) Karar almada hayallerini izler. - (II) Hata ve başarısızlıktan kaçır.
C) (I) Başkalarını memnun eder. - (II) Risk alır.
D) (I) Risk alır. - (II) Temsilci olmaktan çok direkt katılım söz konusudur.

12. Aşağıdakilerden hangisi, insanları girişimci olmaya iten nedenlerinden biri değildir?

- A) Bağımsız çalışabilme
B) Finansal kontrol
C) Başarma hissi
D) Para kaybetme

13. Aşağıdakilerden hangisi girişimcilik türlerinden değildir?

- A) Sosyal Girişimcilik
B) Kadın Girişimciliği
C) Sanatsal Girişimcilik
D) Kamu Girişimciliği

14. Aşağıdakilerden hangisi girişimciliğin avantajlarından değildir?

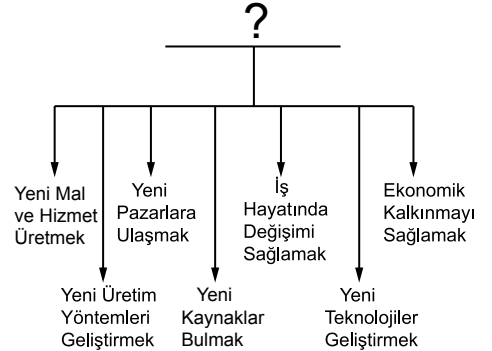
- A) Özerklik
B) Yalnızlık
C) Sorumluluk yükü
D) Hayır diyememe

15. • Toprak Bağış Hareketi'nin kurucusu ve lideridir.
• Hindistan'ın toprak sahibi olmayan fakir köylülerine yaklaşık 3 milyon dönüm toprağın bağışlanmasını sağlamıştır.

Hakkında kısa bilgi verilen sosyal girişimci, aşağıdakilerden hangisidir?

- A) Grameen Bank
B) Vinoba Bhava
C) Susan B. Anthony
D) Florance Nightingale

- 16.



Verilen şemanın ismi, aşağıdakilerden hangisi olmalıdır?

- A) Girişimci Olmanın Şartları
B) Girişimcilik İçin Gerekli Kaynaklar
C) Girişimcinin Özellikleri
D) Girişimcilerin Fonksiyonu

17. "Girişimci, işlerin kötü gittiği anlarda bile - - - yönetimi yaparak ayakta kalmayı başarabilmelidir."

Verilen cümlede boş bırakılan yere, aşağıdakilerden hangisi gelmelidir?

- A) Zarar B) Kâr
C) Kriz D) Sınıf

1. OTURUM

(999) MATEMATİK – 2

18. Aşağıdakilerden hangisi, girişimcilerin başarısızlığa neden olan hatalarından biri değildir?

- A) Taklit
- B) Esneklik
- C) Hedefsizlik
- D) Hatalı istihdam

19. I. Performans yönetimde
II. İnsan kaynakları geliştirilmesinde
III. Stratejik bir plan geliştirilmesi aşamasında
IV. Yeni bir pazara girerken pazarın yapısının çözümlenmesinde

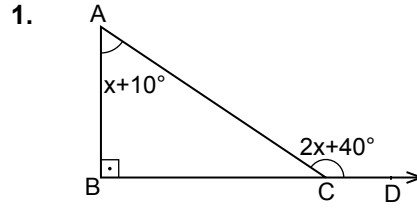
Verilenlerin hangilerinde SWOT Analizi kullanılır?

- A) Yalnız I
- B) I ve II
- C) I, II ve III
- D) I, II, III ve IV

20. İyi bir girişimci; yerinde duramayan, sürekli bir şeyler yapmak için çabalayan, gücünü arttırmaya çalışan ve gücünü başarıya giderken dengeli olarak kullanmanın yollarını arayan insandır.

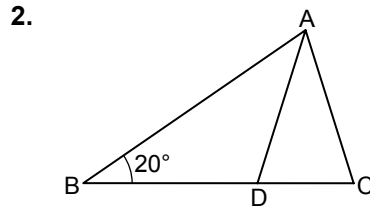
Yukarıda girişimcide olması gereken özelliklerden hangisine uygun bir örnek verilmiştir?

- A) Vizyon
- B) Hırslılık ve kararlılık
- C) Problem çözme
- D) Enerjik olma



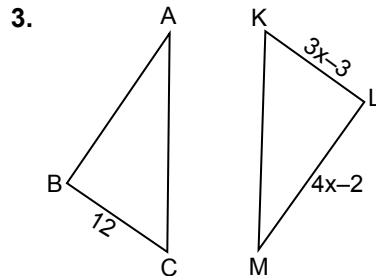
Şekilde $[AB] \perp [BD]$ 'tir.
 $m(\widehat{BAC}) = x + 10^\circ$ ve
 $m(\widehat{ACD}) = 2x + 40^\circ$ olduğuna göre, $m(\widehat{ACB})$ kaç derecedir?

- A) 10
- B) 20
- C) 30
- D) 40



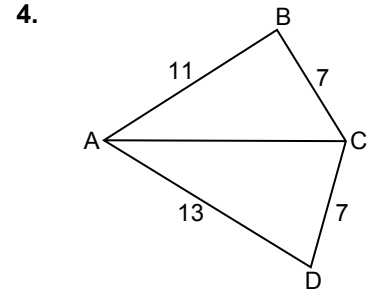
Şekildeki ABC üçgeninde, $|AB| = |BC|$ ve $|AD| = |AC|$ 'tir.
 $m(\widehat{ABC}) = 20^\circ$ olduğuna göre, $m(\widehat{BAD})$ kaç derecedir?

- A) 60
- B) 65
- C) 70
- D) 80



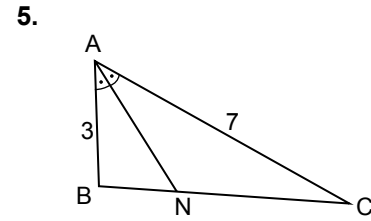
Şekilde $\widehat{ABC} \cong \widehat{MLK}$ 'tir.
 $|BC| = 12$ cm,
 $|KL| = (3x - 3)$ cm ve
 $|LM| = (4x - 2)$ cm olduğuna göre, $|AB|$ kaç santimetredir?

- A) 10
- B) 15
- C) 18
- D) 20



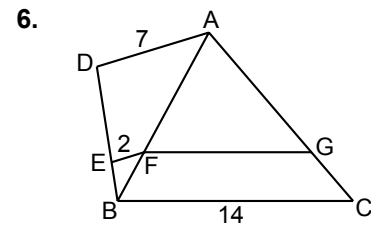
Şekilde $|AB| = 11$ cm,
 $|AD| = 13$ cm ve
 $|BC| = |DC| = 7$ cm olduğuna göre, $|AC|$ 'nin alabileceği en büyük tam sayı değeri kaç santimetredir?

- A) 20
- B) 18
- C) 17
- D) 7



Şekildeki ABC üçgeninde $[AN]$, \widehat{BAC} 'nin açıortayıdır.
 $|AB| = 3$ cm, $|AC| = 7$ cm ve $|BC| = 6$ cm olduğuna göre, $|BN|$ kaç santimetredir?

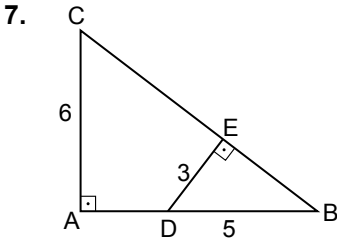
- A) $\frac{9}{5}$
- B) $\frac{12}{5}$
- C) $\frac{18}{5}$
- D) $\frac{21}{5}$



Şekildeki ABC ve BDA üçgenlerinde, $[EF] \parallel [DA]$ ve $[FG] \parallel [BC]$ 'dir.
 $|EF| = 2$ cm, $|DA| = 7$ cm ve $|BC| = 14$ cm olduğuna göre, $|FG|$ kaç santimetredir?

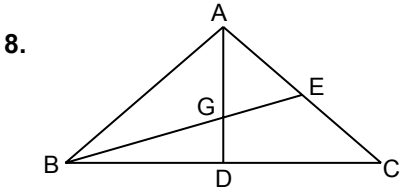
- A) 6
- B) 8
- C) 10
- D) 12

1. OTURUM



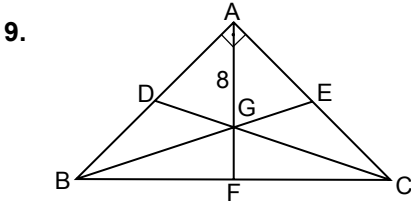
Şekildeki ABC üçgeninde $[CA] \perp [AB]$ ve $[DE] \perp [BC]$ 'tir. $|CA| = 6$ cm, $|DE| = 3$ cm ve $|DB| = 5$ cm olduğuna göre, $|AD|$ kaç santimetredir?

- A) 3 B) 4 C) 5 D) 6



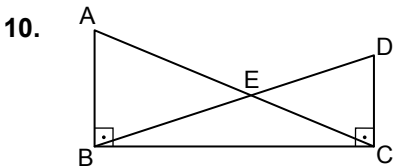
Şekildeki ABC üçgeninde, $[AD]$ ve $[BE]$ kenarortaylarının kesim noktası G'dir. $|AD| = 12$ cm ve $|BE| = 15$ cm olduğuna göre, $|AG| + |GE|$ kaç santimetredir?

- A) $\frac{27}{2}$ B) 13 C) $\frac{11}{2}$ D) 9



Şekildeki ABC üçgeninde $[BE]$, $[AF]$ ve $[CD]$ kenarortaylarının kesim noktası G'dir. $[BA] \perp [CA]$ ve $|AG| = 8$ cm olduğuna göre, $|BC|$ kaç santimetredir?

- A) 10 B) 12 C) 18 D) 24



Şekilde $[AB] \perp [BC]$ ve $[DC] \perp [BC]$ 'tir. $|AB| = 5$ cm, $|AC| = 13$ cm ve $|DC| = 4$ cm olduğuna göre, $|BD|$ kaç santimetredir?

- A) $2\sqrt{5}$ B) $2\sqrt{10}$
C) $4\sqrt{5}$ D) $4\sqrt{10}$

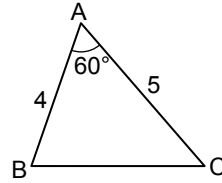
11. $\sin 120^\circ \cdot \cos 45^\circ$ değeri kaçtır?

- A) $\frac{1}{4}$ B) $\frac{\sqrt{2}}{4}$
C) $\frac{\sqrt{6}}{4}$ D) $\frac{3}{4}$

12. $0^\circ < \alpha < 90^\circ$ olmak üzere, $\sin \alpha = \frac{1}{3}$ ise $\cot \alpha$ değeri kaçtır?

- A) $2\sqrt{2}$ B) 3
C) $\frac{3}{2}$ D) $\frac{2\sqrt{2}}{3}$

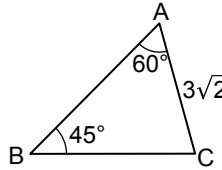
13.



Şekildeki ABC üçgeninde, $m(\widehat{BAC}) = 60^\circ$, $|AB| = 4$ cm ve $|AC| = 5$ cm olduğuna göre, $|BC|$ kaç santimetredir?

- A) $\sqrt{21}$ B) 5
C) $3\sqrt{3}$ D) 7

14.



Şekildeki ABC üçgeninde, $m(\widehat{BAC}) = 60^\circ$, $m(\widehat{CBA}) = 45^\circ$ ve $|AC| = 3\sqrt{2}$ cm olduğuna göre, $|BC|$ kaç santimetredir?

- A) 3 B) $3\sqrt{3}$
C) $2\sqrt{6}$ D) $3\sqrt{6}$

15. Kenar uzunlukları $|AB| = 4$ cm, $|AC| = 6$ cm ve $|BC| = 8$ cm olan ABC üçgeninin alanı kaç santimetrekaredir?

- A) $3\sqrt{5}$ B) $5\sqrt{5}$
C) $3\sqrt{15}$ D) $5\sqrt{15}$

16. A, B, C, D noktaları aynı düzlemde bulunan birbirinden farklı noktalardır. Buna göre, aşağıdakilerden hangisi bir nokta belirtir?

- A) $\overrightarrow{AB} + \overrightarrow{BB} + \overrightarrow{BC}$
B) $\overrightarrow{AB} + \overrightarrow{BC} + \overrightarrow{CC}$
C) $\overrightarrow{AB} + \overrightarrow{BC} + \overrightarrow{CD}$
D) $\overrightarrow{AB} + \overrightarrow{BC} + \overrightarrow{CA}$

17. A(-3) ve B(5) noktaları veriliyor. Buna göre, $2|\overrightarrow{AB}|$ kaç birimdir?

- A) 20 B) 16 C) 12 D) 8

18. Aşağıdaki veri gruplarından hangisinin medyanı diğerlerinden büyüktür?

- A) 2, 3, 5, 7, 7
B) 3, 4, 5, 8, 11
C) 3, 3, 5, 7, 9
D) 4, 5, 6, 6, 8

19. Hilesiz bir zar atıldığında üst yüze gelen sayının 5'ten küçük olma olasılığı nedir?

- A) $\frac{1}{6}$ B) $\frac{1}{3}$ C) $\frac{1}{2}$ D) $\frac{2}{3}$

20. Toplamları 84 olan 4 sayıya, toplamları 42 olan 3 sayı daha eklenirse aritmetik ortalama kaç azalır?

- A) 2 B) 3 C) 4 D) 5

TEST BİTTİ.
CEVAPLARINIZI KONTROL EDİNİZ.

SINAV SÜRESİNCE UYULACAK KURALLAR

1. Adaylar, sınav kurallarına ve salon görevlilerinin tüm uyarılarına uymak zorundadırlar. Kurallara ve uyarılara uymayan adayların sınavları geçersiz sayılacaktır.
2. Sınav başladıktan sonra adayların salon görevlileri ve birbirleri ile konuşmaları, kalem, silgi vb. şeyleri istemeleri yasaktır.
3. Adaylar sınav süresince, sınav giriş belgesi ile birlikte kimlik belgelerinden birini (nüfus cüzdanı, pasaport veya sürücü belgesi) masalarının üzerinde bulundurmamak zorundadırlar.

SALON GÖREVLİLERİNCE SINAV BAŞLAMADAN ÖNCE ADAYLARA YAPILACAK SON UYARI

- Soracağınız bir şey var mı? Varsa şimdi sorunuz.
- Sınav başladıktan sonra sorularınıza cevap verilmeyecektir.
- Başlama zilini bekleyiniz.
- Hepinize başarılar dileriz.

(Salon başkanı başlama ve bitiş saatini tahtaya yazacaktır.)

Bu kitapçığın her hakkı saklıdır. Hangi amaçla olursa olsun, kitapçığın tamamının veya bir kısmının Millî Eğitim Bakanlığı Ölçme, Değerlendirme ve Sınav Hizmetleri Genel Müdürlüğünün yazılı izni olmadan kopya edilmesi, fotoğraflarının çekilmesi, bilgisayar ortamına alınması, herhangi bir yolla çoğaltılması, yayımlanması veya başka bir amaçla kullanılması yasaktır. Bu yasağa uymayanlar, doğabilecek cezai sorumluluğu ve kitapçığın hazırlanmasındaki mali külfeti peşinen kabullenmiş sayılır.

30 MAYIS 2015 TARİHİNDE YAPILAN AÇIKÖĞRETİM LİSESİ / MESLEKİ AÇIKÖĞRETİM LİSESİ
2014-2015 ÖĞRETİM YILI 2. DÖNEM SINAVI 1. OTURUM T KİTAPÇIĞI CEVAP ANAHTARI

DİN KÜL. AHL. BİL. – 1

1. A
2. B
3. C
4. A
5. C
6. D
7. C
8. D
9. B
10. C
11. A
12. C
13. A
14. C
15. A
16. D
17. D
18. B
19. A
20. C

DİN KÜL. AHL. BİL. – 5

1. B
2. C
3. D
4. A
5. C
6. D
7. A
8. C
9. C
10. B
11. A
12. C
13. B
14. A
15. D
16. C
17. A
18. D
19. B
20. B

SEÇMELİ FELSEFE – 1

1. A
2. B
3. D
4. C
5. B
6. D
7. A
8. D
9. B
10. C
11. B
12. B
13. A
14. A
15. C
16. D
17. C
18. A
19. D
20. B

TARİH – 6

1. C
2. B
3. B
4. D
5. C
6. B
7. A
8. C
9. B
10. D
11. C
12. A
13. A
14. D
15. B
16. C
17. D
18. C
19. C
20. A

DİN KÜL. AHL. BİL. – 2

1. B
2. D
3. A
4. D
5. C
6. B
7. B
8. D
9. D
10. C
11. B
12. A
13. D
14. B
15. C
16. B
17. A
18. D
19. A
20. C

FELSEFE – 1

1. A
2. D
3. C
4. B
5. C
6. A
7. A
8. B
9. B
10. A
11. C
12. A
13. D
14. C
15. D
16. C
17. B
18. D
19. C
20. D

TARİH – 2

1. A
2. C
3. B
4. D
5. B
6. B
7. D
8. B
9. D
10. A
11. D
12. C
13. C
14. A
15. D
16. B
17. C
18. D
19. A
20. A

COĞRAFYA – 1

1. D
2. A
3. A
4. C
5. B
6. D
7. A
8. A
9. C
10. A
11. C
12. C
13. D
14. B
15. A
16. C
17. B
18. B
19. D
20. B

30 MAYIS 2015 TARİHİNDE YAPILAN AÇIKÖĞRETİM LİSESİ / MESLEKİ AÇIKÖĞRETİM LİSESİ
2014-2015 ÖĞRETİM YILI 2. DÖNEM SINAVI 1. OTURUM T KİTAPÇIĞI CEVAP ANAHTARI

COĞRAFYA – 5

1. C
2. D
3. C
4. C
5. B
6. C
7. B
8. A
9. C
10. D
11. A
12. D
13. A
14. D
15. B
16. B
17. C
18. C
19. A
20. A

İNGİLİZCE – 1

1. D
2. C
3. B
4. D
5. A
6. B
7. C
8. A
9. A
10. B
11. C
12. D
13. C
14. B
15. D
16. A
17. C
18. B
19. A
20. D

FRANSIZCA – 1

1. A
2. C
3. D
4. B
5. D
6. A
7. A
8. C
9. D
10. B
11. C
12. D
13. A
14. C
15. B
16. D
17. B
18. C
19. A
20. D

ALMANCA – 5

1. D
2. A
3. B
4. C
5. A
6. B
7. C
8. D
9. A
10. C
11. D
12. B
13. C
14. D
15. A
16. B
17. D
18. A
19. C
20. B

COĞRAFYA – 7

1. A
2. B
3. C
4. D
5. C
6. C
7. B
8. C
9. D
10. C
11. A
12. B
13. A
14. C
15. A
16. B
17. C
18. D
19. B
20. D

ALMANCA – 1

1. C
2. A
3. B
4. D
5. B
6. C
7. C
8. B
9. A
10. D
11. C
12. A
13. D
14. B
15. D
16. A
17. B
18. A
19. C
20. D

İNGİLİZCE – 5

1. D
2. A
3. C
4. B
5. A
6. D
7. C
8. A
9. D
10. B
11. C
12. B
13. B
14. C
15. A
16. C
17. D
18. A
19. B
20. C

FRANSIZCA – 5

1. B
2. C
3. D
4. A
5. B
6. A
7. D
8. C
9. C
10. D
11. A
12. A
13. B
14. A
15. C
16. D
17. A
18. D
19. B
20. B

30 MAYIS 2015 TARİHİNDE YAPILAN AÇIKÖĞRETİM LİSESİ / MESLEKİ AÇIKÖĞRETİM LİSESİ
2014-2015 ÖĞRETİM YILI 2. DÖNEM SINAVI 1. OTURUM T KİTAPÇIĞI CEVAP ANAHTARI

DİL ve ANLATIM – 1

1. B
2. D
3. D
4. C
5. B
6. D
7. B
8. C
9. C
10. B
11. C
12. A
13. D
14. A
15. B
16. A
17. D
18. A
19. A
20. B

DİL ve ANLATIM – 7

1. C
2. A
3. C
4. D
5. C
6. A
7. B
8. A
9. D
10. B
11. D
12. A
13. B
14. D
15. A
16. D
17. C
18. B
19. B
20. D

TÜRK EDEBİYATI – 4

1. A
2. C
3. C
4. D
5. A
6. B
7. C
8. B
9. A
10. D
11. B
12. B
13. C
14. B
15. A
16. D
17. C
18. C
19. B
20. B

TÜRK EDEBİYATI – 8

1. A
2. C
3. D
4. D
5. B
6. A
7. B
8. D
9. B
10. D
11. D
12. B
13. C
14. A
15. B
16. C
17. B
18. C
19. A
20. C

DİL ve ANLATIM – 2

1. B
2. D
3. A
4. B
5. D
6. C
7. D
8. B
9. A
10. D
11. C
12. C
13. B
14. C
15. B
16. A
17. A
18. C
19. D
20. B

DİL ve ANLATIM – 8

1. A
2. D
3. B
4. A
5. B
6. C
7. B
8. D
9. C
10. C
11. D
12. B
13. C
14. A
15. A
16. A
17. D
18. B
19. A
20. B

TÜRK EDEBİYATI – 7

1. B
2. C
3. B
4. A
5. B
6. A
7. D
8. A
9. C
10. D
11. C
12. A
13. C
14. A
15. D
16. D
17. C
18. A
19. B
20. B

FİZİK – 1

1. B
2. D
3. D
4. C
5. B
6. C
7. C
8. A
9. D
10. B
11. A
12. D
13. D
14. C
15. A
16. B
17. C
18. A
19. B
20. A

30 MAYIS 2015 TARİHİNDE YAPILAN AÇIKÖĞRETİM LİSESİ / MESLEKİ AÇIKÖĞRETİM LİSESİ
2014-2015 ÖĞRETİM YILI 2. DÖNEM SINAVI 1. OTURUM T KİTAPÇIĞI CEVAP ANAHTARI

FİZİK – 5

1. D
2. C
3. D
4. B
5. D
6. D
7. B
8. C
9. C
10. D
11. C
12. A
13. C
14. A
15. B
16. D
17. B
18. A
19. C
20. A

KİMYA – 6

1. A
2. C
3. D
4. B
5. C
6. A
7. A
8. B
9. C
10. B
11. B
12. A
13. D
14. C
15. C
16. A
17. D
18. B
19. B
20. C

BİYOLOJİ – 3

1. C
2. D
3. A
4. B
5. B
6. A
7. C
8. A
9. B
10. B
11. C
12. D
13. A
14. D
15. A
16. C
17. D
18. C
19. D
20. B

EKONOMİ. – 1

1. B
2. A
3. C
4. B
5. C
6. D
7. D
8. B
9. A
10. A
11. D
12. C
13. D
14. C
15. A
16. D
17. C
18. A
19. A
20. B

KİMYA – 2

1. B
2. C
3. D
4. B
5. B
6. A
7. C
8. B
9. C
10. D
11. A
12. D
13. A
14. D
15. A
16. C
17. C
18. B
19. A
20. D

BİYOLOJİ – 1

1. B
2. C
3. B
4. C
5. A
6. B
7. B
8. C
9. D
10. C
11. C
12. D
13. C
14. D
15. A
16. B
17. D
18. D
19. A
20. A

BİYOLOJİ – 6

1. B
2. D
3. C
4. A
5. B
6. C
7. D
8. B
9. A
10. D
11. B
12. A
13. B
14. C
15. C
16. A
17. D
18. A
19. D
20. C

TEMEL DİNİ BİL.– 1

1. A
2. B
3. C
4. D
5. C
6. B
7. C
8. A
9. A
10. C
11. C
12. A
13. C
14. D
15. A
16. D
17. B
18. B
19. D
20. D

30 MAYIS 2015 TARİHİNDE YAPILAN AÇIKÖĞRETİM LİSESİ / MESLEKİ AÇIKÖĞRETİM LİSESİ
2014-2015 ÖĞRETİM YILI 2. DÖNEM SINAVI 1. OTURUM T KİTAPÇIĞI CEVAP ANAHTARI

İŞLETME – 2

1. A
2. C
3. C
4. B
5. C
6. D
7. A
8. B
9. A
10. C
11. D
12. A
13. D
14. C
15. B
16. C
17. A
18. D
19. C
20. B

SAĞLIK BİLGİSİ – 2

1. C
2. C
3. A
4. D
5. A
6. B
7. B
8. C
9. B
10. B
11. D
12. A
13. D
14. C
15. D
16. C
17. B
18. A
19. A
20. D

GEOMETRİ – 5

1. B
2. C
3. A
4. A
5. B
6. D
7. C
8. C
9. B
10. A
11. B
12. A
13. D
14. A
15. C
16. B
17. C
18. D
19. C
20. D

ALMANCA – 8

1. A
2. B
3. C
4. C
5. A
6. B
7. C
8. D
9. D
10. A
11. D
12. B
13. A
14. B
15. D
16. C
17. B
18. C
19. D
20. A

MANTIK – 2

1. B
2. A
3. C
4. D
5. C
6. D
7. A
8. B
9. C
10. A
11. D
12. D
13. B
14. C
15. C
16. B
17. B
18. A
19. D
20. C

TRAF. VE İLK YARD. – 1

1. B
2. A
3. D
4. A
5. B
6. C
7. D
8. C
9. A
10. B
11. D
12. C
13. A
14. D
15. D
16. C
17. A
18. C
19. C
20. B

İNGİLİZCE – 8

1. C
2. A
3. D
4. C
5. B
6. D
7. B
8. A
9. D
10. B
11. C
12. B
13. A
14. C
15. B
16. C
17. A
18. D
19. C
20. A

FRANSIZCA – 8

1. B
2. C
3. A
4. D
5. D
6. C
7. A
8. B
9. B
10. C
11. D
12. A
13. C
14. B
15. A
16. D
17. A
18. C
19. D
20. B

30 MAYIS 2015 TARİHİNDE YAPILAN AÇIKÖĞRETİM LİSESİ / MESLEKİ AÇIKÖĞRETİM LİSESİ
2014-2015 ÖĞRETİM YILI 2. DÖNEM SINAVI 1. OTURUM T KİTAPÇIĞI CEVAP ANAHTARI

FIKİH – 1

1. B
2. C
3. D
4. A
5. C
6. C
7. D
8. A
9. B
10. D
11. A
12. D
13. A
14. C
15. A
16. D
17. B
18. B
19. C
20. C

SEÇ. Y. DİL ALM. – 5

1. B
2. C
3. C
4. D
5. B
6. C
7. D
8. B
9. B
10. C
11. D
12. A
13. B
14. C
15. B
16. C
17. C
18. A
19. C
20. B

SEÇ. Y. DİL İNG. – 8

1. B
2. C
3. D
4. B
5. A
6. D
7. C
8. A
9. D
10. C
11. B
12. B
13. A
14. D
15. A
16. C
17. D
18. B
19. A
20. C

SEÇ. Y. DİL FRAN. – 8

1. D
2. A
3. C
4. B
5. B
6. D
7. A
8. C
9. C
10. B
11. D
12. A
13. D
14. A
15. B
16. B
17. D
18. A
19. C
20. A

SEÇ. Y. DİL İNG. – 5

1. B
2. D
3. A
4. C
5. A
6. B
7. C
8. D
9. A
10. C
11. A
12. C
13. B
14. D
15. C
16. B
17. D
18. B
19. A
20. A

SEÇ. Y. DİL FRAN. – 5

1. B
2. A
3. C
4. C
5. D
6. A
7. B
8. D
9. C
10. B
11. D
12. A
13. B
14. D
15. B
16. A
17. C
18. D
19. B
20. A

SEÇ. Y. DİL ALM. – 8

1. D
2. B
3. C
4. A
5. D
6. C
7. B
8. A
9. D
10. D
11. A
12. C
13. B
14. B
15. D
16. A
17. C
18. C
19. B
20. A

HZ. MUHAMMED'İN HAY. – 2

1. D
2. B
3. D
4. C
5. C
6. A
7. A
8. C
9. B
10. A
11. B
12. B
13. D
14. A
15. D
16. D
17. B
18. A
19. C
20. C

30 MAYIS 2015 TARİHİNDE YAPILAN AÇIKÖĞRETİM LİSESİ / MESLEKİ AÇIKÖĞRETİM LİSESİ
2014-2015 ÖĞRETİM YILI 2. DÖNEM SINAVI 1. OTURUM T KİTAPÇIĞI CEVAP ANAHTARI

MATEMATİK – 6

1. A
2. B
3. B
4. D
5. A
6. D
7. C
8. D
9. D
10. A
11. B
12. A
13. C
14. C
15. A
16. B
17. B
18. C
19. C
20. D

SEÇ. DİL ve ANLA. – 7

1. B
2. A
3. D
4. B
5. C
6. B
7. D
8. A
9. A
10. D
11. C
12. A
13. D
14. A
15. A
16. C
17. B
18. C
19. C
20. D

SEÇ. TÜRK EDEB. – 4

1. A
2. B
3. C
4. C
5. D
6. B
7. D
8. D
9. D
10. A
11. A
12. B
13. B
14. C
15. D
16. A
17. D
18. B
19. C
20. C

SEÇ. TÜRK EDEB. – 8

1. B
2. D
3. A
4. D
5. B
6. A
7. C
8. C
9. B
10. A
11. C
12. B
13. A
14. C
15. D
16. C
17. D
18. D
19. B
20. B

KARŞ. DİN. TARİHİ – 1

1. B
2. A
3. C
4. A
5. D
6. D
7. A
8. C
9. D
10. D
11. B
12. A
13. D
14. B
15. D
16. C
17. B
18. A
19. C
20. C

SEÇ. DİL ve ANLA. – 8

1. B
2. D
3. C
4. A
5. C
6. B
7. A
8. C
9. C
10. D
11. D
12. B
13. C
14. B
15. D
16. A
17. B
18. C
19. D
20. A

SEÇ. TÜRK EDEB. – 7

1. C
2. D
3. A
4. B
5. A
6. C
7. D
8. C
9. B
10. A
11. C
12. A
13. B
14. C
15. B
16. B
17. D
18. C
19. D
20. C

İSLAM TARİHİ – 1

1. D
2. B
3. A
4. C
5. B
6. C
7. C
8. A
9. B
10. C
11. D
12. D
13. B
14. C
15. A
16. C
17. D
18. C
19. D
20. A

30 MAYIS 2015 TARİHİNDE YAPILAN AÇIKÖĞRETİM LİSESİ / MESLEKİ AÇIKÖĞRETİM LİSESİ
2014-2015 ÖĞRETİM YILI 2. DÖNEM SINAVI 1. OTURUM T KİTAPÇIĞI CEVAP ANAHTARI

KELAM – 1

1. D
2. A
3. B
4. C
5. C
6. B
7. A
8. C
9. A
10. D
11. B
12. B
13. A
14. C
15. D
16. B
17. A
18. D
19. B
20. C

GİRİŞİMCİLİK – 1

1. C
2. A
3. B
4. A
5. D
6. C
7. A
8. B
9. C
10. A
11. B
12. D
13. C
14. A
15. B
16. D
17. C
18. B
19. D
20. D

SİYER – 1

1. A
2. D
3. D
4. A
5. C
6. D
7. A
8. A
9. C
10. B
11. A
12. B
13. C
14. B
15. C
16. D
17. B
18. D
19. C
20. D

MATEMATİK – 2

1. B
2. A
3. C
4. C
5. A
6. C
7. A
8. B
9. D
10. D
11. C
12. A
13. A
14. B
15. C
16. D
17. B
18. D
19. D
20. B