

OTURUM

2



T.C.  
MİLLÎ EĞİTİM BAKANLIĞI  
ÖLÇME, DEĞERLENDİRME VE SINAV HİZMETLERİ  
GENEL MÜDÜRLÜĞÜ

T

AÇIK ÖĞRETİM LİSESİ / MESLEKİ AÇIK ÖĞRETİM LİSESİ  
2015 - 2016 ÖĞRETİM YILI EK SINAV  
2. OTURUM: 11 ARALIK 2016 Saat:14.00

<u>DERS KODU VE ADI</u>	<u>SAYFA</u>	<u>DERS KODU VE ADI</u>	<u>SAYFA</u>	<u>DERS KODU VE ADI</u>	<u>SAYFA</u>
(111) DİN KÜL. AHL. BİL. – 1	2	(412) TÜRK EDEBİYATI – 2	27	(502) ALMANCA – 8	54
(112) DİN KÜL. AHL. BİL. – 2	3	(418) TÜRK EDEBİYATI – 8	28	(502) FRANSIZCA – 8	55
(113) DİN KÜL. AHL. BİL. – 3	4	(421) FİZİK – 1	30	(503) SEÇ. TARİH – 3	56
(114) DİN KÜL. AHL. BİL. – 4	6	(422) FİZİK – 2	31	(504) SEÇMELİ TARİH – 4	57
(123) SEÇ. FELSEFE – 1	7	(423) FİZİK – 3	32	(505) SEÇ. COĞRAFYA – 3	59
(124) SEÇ. FELSEFE – 2	8	(424) FİZİK – 4	34	(506) SEÇ. COĞRAFYA – 4	60
(151) COĞRAFYA – 1	10	(433) KİMYA – 3	35	(511) FIKIH – 1	61
(152) COĞRAFYA – 2	11	(434) KİMYA – 4	37	(512) FIKIH – 2	62
(181) İNGİLİZCE – 1	12	(443) BİYOLOJİ – 3	38	(531) HZ. MUHAMMED'İN HAY. – 1	64
(181) ALMANCA – 1	13	(444) BİYOLOJİ – 4	40	(532) HZ. MUHAMMED'İN HAY. – 2	65
(181) FRANSIZCA – 1	14	(451) ÇAĞ. TÜRK VE DÜN. TAR. – 1	41	(613) SEÇ. DİL VE ANLA. – 3	66
(182) İNGİLİZCE – 2	15	(455) DEM. ve İNSAN HAK. – 1	43	(614) SEÇ. DİL VE ANLA. – 4	68
(182) ALMANCA – 2	16	(461) EKONOMİ – 1	44	(711) İSLAM TARİHİ – 1	69
(182) FRANSIZCA – 2	17	(462) EKONOMİ – 2	45	(712) İSLAM TARİHİ – 2	71
(207) PSİKOLOJİ – 2	18	(476) İŞLETME – 1	46	(931) SİYER – 1	72
(208) SOSYOLOJİ – 1	19	(477) İŞLETME – 2	48	(932) SİYER – 2	73
(401) DİL VE ANLATIM – 1	21	(479) MANTIK – 2	49	(974) GİRİŞİMCİLİK – 1	74
(402) DİL VE ANLATIM – 2	22	(481) SANAT TARİHİ – 1	50	(975) GİRİŞİMCİLİK – 2	75
(408) DİL VE ANLATIM – 8	24	(482) SANAT TARİHİ – 2	52	(998) MATEMATİK – 1	77
(411) TÜRK EDEBİYATI – 1	25	(502) İNGİLİZCE – 8	53	(999) MATEMATİK – 2	78

### ADAYLARIN DİKKATİNE!

- Her ders için 20 soru bulunmaktadır. Bu oturumda **180** dakikalık cevaplama süreniz vardır. Sınav başladıktan sonra ilk **30** dakika tamamlanmadan dışarı çıkmayınız.
- Sınav sırasında çanta, cep telefonu, saat, kablosuz iletişim sağlayan cihazlar ve kulaklık, kolye, küpe, bilezik, yüzük, broş ve benzeri eşyalar ile her türlü elektronik ve/veya mekanik cihazları yanınızda bulundurmuyunuz. Bu araçları kullanmanız ve kopya çekmeye teşebbüs etmeniz hâlinde sınavınız geçersiz sayılacaktır.
- Başvuru şartlarını taşımadığınız hâlde sınava girmeniz, kopya çekmeniz, başka adayın sınav evrakını kullanmanız, geçerli kimlik belgenizi ve sınav giriş belgenizi ibraz edemediğiniz durumlarda sınavınız geçersiz sayılacaktır.
- Sınavın değerlendirilmesi aşamasında, bilgisayar ortamında yapılan kopya analizinde sistemin ikili ve /veya toplu kopya tespiti hâlinde sınavınız geçersiz sayılacaktır.
- Adaylar, sınav kurallarına ve salon görevlilerinin tüm uyarılarına uymak zorundadır. Kurallara ve uyarılara uymayan adayların sınavları geçersiz sayılacaktır.**
- Sınav başladıktan sonra adayların salon görevlileri ve birbirleri ile konuşmaları; kalem, silgi vb. şeyleri istemeleri yasaktır.
- Adaylar sınav süresince, sınav giriş belgesi ile geçerli kimlik belgelerinden birinin aslını (fotoğraflı nüfus cüzdanı, pasaport veya sürücü belgesi) masalarının üzerinde bulundurmamak zorundadır.
- Sınav evraklarını teslim etmeyen, soru kitapçıklarının sayfalarından bir kısmını eksik teslim edenlerin sınavları geçersiz sayılacaktır.**
- Sınav başlamadan önce kitapçığın arkasındaki açıklamaları okuyunuz.

**BAŞLAYINIZ DENMEDEN SORU KİTAPÇIKLARINI AÇMAYINIZ.**

## 2. OTURUM

(111) DİN KÜL. AHL. BİL. – 1

1. “İman edip iyi işler yapanlar cennet bahçelerindedir. Rab’lerinin yanında onlara diledikleri her şey vardır. İşte büyük lütuf budur.” (Şûrâ suresi, 22. ayet)

**Bu ayette ibadetin kişiye sağladığı faydalardan hangisi dile getirilmektedir?**

- A) İnsanı ümitsizlikten koruyacağı  
B) Allah’a olan inancı pekiştireceği  
C) İbadet eden insanın ahirette ödüllendirileceği  
D) İnsanda sorumluluk bilincini geliştireceği

2. **Aşağıdakilerden hangisi ibadet-temizlik ilişkisi bağlamında ele alınamaz?**

- A) Dişleri fırçalamak  
B) Abdest almak  
C) Kin tutmamak  
D) Selam vermek

3. **Usulüne uygun abdest alan bir kişi yüzünü yıkadıktan sonra aşağıdakilerden hangisini yapar?**

- A) Başını mesh eder.  
B) Kollarını yıkar.  
C) Ayaklarını yıkar.  
D) Ağzı ve burnunu yıkar.

4. **Aşağıdakilerden hangisi Kur’an-ı Kerim’in okunmasıyla ilgili bir kavram değildir?**

- A) Mushaf B) Hatim  
C) Mukabele D) Tecvit

5. **Hz. Muhammed (sav.)’e inen ilk ayetler hangi surede yer alır?**

- A) Alak B) İhlâs  
C) Yâsîn D) Müddessir

6. **İnsanlarda, yaptıklarının hesabını verme bilincinin oluşmasında, aşağıdakilerden hangisi diğerlerine göre daha çok etkilidir?**

- A) Kader inancı  
B) Melek inancı  
C) Ahiret inancı  
D) Peygamber inancı

7. **İslam öncesi Arap toplumunun yaşadığı döneme “cahiliye dönemi” denilmesinin en önemli sebebi aşağıdakilerden hangisidir?**

- A) Kabileler arası savaşların sürekli devam etmesi  
B) İnsanların çoğunun okur-yazar olmaması  
C) Toplumda Allah inancının bulunmaması  
D) Kötü alışkanlık ve davranışların yaygın olması

8. **İslam dininde; Yüce Yaratıcı’yı hoşnut etmek için, Onun emir ve yasaklarını yerine getirmektir.**

**Verilen tanım aşağıdakilerden hangisine aittir?**

- A) Tefekkür B) İbadet  
C) Kader D) Dua

9. **Su bulunmadığı zaman teyemmüm etmek İslam’ın insanlara sağladığı bir kolaylıktır.**

**Bu durum aşağıdaki ayetlerin hangisi ile ilişkilendirilebilir?**

- A) “...Eğer cünüp oldunuz ise boy abdesti alın...” (Mâide suresi, 6. ayet)  
B) “... (Allah) Her şeyi yaratıp bir ölçüye göre düzen vermiştir.” (Furkân suresi, 2. ayet)  
C) “... Allah sizin için kolaylık ister. Güçlük istemez...” (Bakara suresi, 185. ayet)  
D) “... Kuşkusuz Allah, tövbe edenleri ve temizlenenleri sever.” (Bakara suresi, 222. ayet)

10. • Tanrının varlığı kabul edilmez.  
• “Yok”un ispatlanması mümkün değildir.  
• Nietzsche ve Sartre tarafından geliştirilen bu sistem bunalım felsefesi olarak da adlandırılır.

**Hakkında bilgi verilen düşünce sistemi aşağıdakilerden hangisidir?**

- A) Ateizm B) Politeizm  
C) Monoteizm D) Pragmatizm

11. **Aşağıdakilerden hangisi İslam öncesi Arap toplumunun sosyal ve ahlaki yapısında görülmez?**

- A) Kız çocuğu sahibi olmak utanç vesilesiydi.  
B) İnsanlar hürler ve köleler olmak üzere iki sınıfa ayrılmıştı.  
C) Toplum edebiyat ve sanattan çok uzak yaşıyordu.  
D) Köleler ve yoksullar eziliyor hakları verilmiyordu.

12. **Cumhuriyet Dönemi’nde ilk meal çalışması yapan ilim adamı aşağıdakilerden hangisidir?**

- A) Elmalılı Muhammed Hamdi Yazır  
B) Mehmet Rifat Börekçi  
C) Mehmet Akif Ersoy  
D) Hasan Basri Çantay

13. **İlk gelen vahiyden sonra Hz. Muhammed (sav.)’e bir süre vahiy gelmemiştir.**

**Bu dönem aşağıdakilerden hangisiyle isimlendirilmiştir?**

- A) Senetü’l Hüzün  
B) Fetretü’l Vahiy  
C) Senetü’l Vufûd  
D) Hılful-Fudûl

14.

Tanımlar	Kavramlar
• Kur’an’ı meydana getiren cümlelerdir. • Kur’an’ın yirmişer sayfalık bölümleridir. • Kur’an’ın kitap haline getirilmiş şeklidir.	• Mushaf • Sure • Ayet • Cüz

**Tabloda tanımlar ve kavramlar eşleştirildiğinde hangi kavram dışarda kalır?**

- A) Sure B) Ayet  
C) Cüz D) Mushaf

15. **Aşağıdakilerden hangisi Hz. Muhammed (sav.)’in insani yönü ile ilgili değildir?**

- A) Ticaretle uğraşması  
B) Çocuk sahibi olması  
C) Allah’tan vahiy alması  
D) Yetim olarak doğması

## 2. OTURUM

### (112) DİN KÜL. AHL. BİL. – 2

16. “Hira Mağarası”nın İslam tarihinde önemi daha çok aşağıdakilerin hangisinden kaynaklanmaktadır?

- A) Mekke şehrinde yer alması
- B) İlk vahyin burada nazil olması
- C) Şehrin karmaşasından uzak ve sakin bir yer olması
- D) Hz. Muhammed (sav.)’in inzivaya çekildiği yer olması

17. Aşağıdaki davranışlardan hangisi ibadet kapsamında değerlendirilemez?

- A) Çirkin ve kötü davranışlardan uzak durmak
- B) İnsanların sevincini ve üzüntüsünü paylaşmak
- C) Allah’ın rızasını kazanmak için güzel işler yapmak
- D) Müslüman olmayan insanları toplumdaki dışlamak

18. Kur’an-ı Kerim’in ilk müfessiri aşağıdakilerden hangisidir?

- A) Hz. Osman
- B) Hz. Muhammed (sav.)
- C) Zeyd b. Sabit
- D) Hz. Ebu Bekir

19. Aşağıdakilerden hangisi Kur’an-ı Kerim’in ana konularından biri değildir?

- A) İnanç
- B) İbadet
- C) Ahlak
- D) Hadis

20. İslam tarihi ile ilgili aşağıda verilen bilgilerden hangisi yanlıştır?

- A) İlk Cuma namazı Ranuna Vadisi’nde kılınmıştır.
- B) İlk hicret Habeşistan’a yapılmıştır.
- C) İlk Mescid Kûba köyünde inşa edilmiştir.
- D) Müşriklerle ilk savaş Uhud’da yapılmıştır.

1. Seçme ve seçilme hakkı aşağıdakilerden hangisiyle ilgilidir?

- A) Sosyal haklar
- B) Siyasi haklar
- C) Ekonomik haklar
- D) Eğitim hakkı

2. • Asıl adı Numan b. Sabit’tir.  
• En önemli eseri Fıkh-ı Ekber’dir.  
• Türkler genel olarak onun fıkhî görüşleriyle amel eder.

Hakkında bilgi verilen âlim aşağıdakilerden hangisidir?

- A) İmam Şafii
- B) Ebu Hanife
- C) Enes b. Malik
- D) Ahmet b. Hanbel

3. “Dinimiz; akla, mantığa ve gerçeklere tamamen uymakta ve uygun gelmektedir. Eğer akla, mantığa ve gerçeklere uymamış olsa idi bununla diğer ilahi tabiat kanunları arasında zıtlık olması gerekirdi.”

(Atatürk’ün Balıkesir Hutbesi’nden)

Bu paragrafta, Atatürk’ün vurguladığı iki kavram hangi seçenekte birlikte verilmiştir?

- A) Din-Bilim
- B) İnanç-İbadet
- C) Vicdan-Ahlâk
- D) Bilgi-Cehalet

4. Aşağıdakilerden hangisi Atatürk’ün laiklik anlayışı ile bağdaşmaz?

- A) Bilgi
- B) Hürriyet
- C) Taassup
- D) Hoşgörü

5. Divan-ı Hikmet adlı eser aşağıdaki mutasavvıflardan hangisine aittir?

- A) Mevlana
- B) Ahmet Yesevi
- C) Yunus Emre
- D) Hacı Bayram Veli

6. Kur’an-ı Kerim, Mekke’de indi, Mısır’da okundu, İstanbul’da yazıldı.

Bu ifadede Türklerin, hangi alanda İslam sanatına yaptıkları katkıya işaret edilmektedir?

- A) Hat
- B) Ebru
- C) Tezhip
- D) Minyatür

7. • Müslüman Türk coğrafyacısı ve denizcisidir.  
• Dünya haritasını günümüzdeki ölçülere yakın biçimde çizen ilk kişidir.

Bu bilgiler aşağıdaki bilim adamlarından hangisine aittir?

- A) Birunî
- B) Farabî
- C) Piri Reis
- D) Fahreddin Razi

8. Laiklik ilkesi Anayasa’ya aşağıdaki tarihlerden hangisinde girmiştir?

- A) 1933
- B) 1935
- C) 1937
- D) 1939

9. Aşağıdaki ayetlerden hangisi dinin istismar edilmesi ile ilişkilendirilebilir?

- A) “... Allah’ın ayetlerini az bir karşılık ile satmayın...” (Bakara suresi, 41. ayet)
- B) “İşte bunlar Allah’ın ayetleridir. Biz onları sana doğru olarak anlatıyoruz...” (Bakara suresi, 252. ayet)
- C) “Size ayetlerim okunurdu da siz onları yalanladınız değil mi?” (Mü’minûn suresi, 105. ayet)
- D) “Kendilerine, O çok esirgeyici Allah’tan hiçbir yeni öğüt gelmez ki, ondan yüz çevirmesinler.” (Şuarâ suresi, 5. ayet)

10. Bayramilik Tarikatı’nın kurucusu aşağıdakilerden hangisidir?

- A) Ahi Evran
- B) Hacı Bektaş-ı Veli
- C) Hacı Bayram-ı Veli
- D) Hoca Ahmet Yesevi

## 2. OTURUM

11. Hz. Muhammed (sav.), Medine'ye hicret ettikten sonra oradaki farklı inanç gruplarıyla ve kabilelerle anlaşarak inanç hürriyeti, ticaret yapma serbestliği gibi temel insani haklarını güvence altına almıştır.

**Bu olay aşağıdakilerden hangisi ile isimlendirilmiştir?**

- A) Hudeybiye Antlaşması  
B) Medine Sözleşmesi  
C) Veda Hutbesi  
D) Akabe Biatları

12. Aşağıdakilerden hangisi sanatsal bir değeri ifade eder?

- A) İyi B) Kötü  
C) Helal D) Güzel

13.

	Eser	Yazar
I	Divan-ı Hikmet	Ahmet Yesevî
II	Makalât	Hacı Beştaş-ı Veli
III	Kanun fit-Tıp	İbn Sina
IV	Mesnevi	Ahî Evran

**Tablodaki eşleştirmelerden hangisi yanlıştır?**

- A) I B) II C) III D) IV

14. Bayrak ve milli marş aşağıdakilerden hangisinin sembolüdür?

- A) Kahramanlığın  
B) Medeniyetin  
C) Bağımsızlığın  
D) Laikliğin

15. "...Peygamber size ne verdiyse onu alın, size ne yasakladıysa ondan sakının..." ( Haşr suresi, 7. ayet)

**Bu ayette insanların öncelikle hangi değere göre yaşamaları tavsiye edilmiştir?**

- A) Ahlaki B) Örfi  
C) Milli D) Dini

16. Aşağıdakilerden hangisi "doğuştan kazanılan değerler" in ortak özelliklerinden biri değildir?

- A) Evrenseldirler.  
B) Birleştiricidirler.  
C) Genel kabul görmüşlerdir.  
D) Kültürden kültüre değişiklik gösterirler.

17. "Kim zerre kadar hayır yapmışsa onun mükâfatını görür. Kim de zerre kadar kötülük işlemişse onun cezasını görür." (Zilzâl suresi, 7-8. ayetler)

**Bu ayetlerden aşağıdaki sonuçlardan hangisi çıkarılamaz?**

- A) Kişi yaptığından sorumludur.  
B) Şirk koşmak büyük günahdır.  
C) İyilik yapmak ibadettir.  
D) İnsan irade sahibidir.

18. Aşağıdaki eserlerden hangisi İmam Maturidi'ye aittir?

- A) el-Âlim ve'l-Müteallim  
B) Te'vilatu'l- Kur'an  
C) Divan-ı Hikmet  
D) Mesnevi

19. Örf ve âdetler ile ilgili aşağıdaki ifadelerden hangisi doğrudur?

- A) Örf ve âdetler yazılı olmayan kurallardır.  
B) Örf ve âdetlerin oluşumunda dinin etkisi yoktur.  
C) Hiçbir örf ve adet ahlaki değerlere ters düşmez.  
D) İslam her türlü örf ve âdetin yaşatılmasını tavsiye etmiştir.

20. Kufi, sülüs ve nesih gibi çeşitleri bulunan sanat dalı hangisidir?

- A) Minyatür B) Ebru  
C) Tezhip D) Hat

(113) DİN KÜL. AHL. BİL. – 3

1. "Dua ibadetin özüdür."

**Aşağıdaki ayetlerden hangisi bu hadisin ana düşüncesini en iyi ifade eder?**

- A) "Sabır ve namaz ile Allah'tan yardım isteyin..." (Bakara suresi, 45. ayet)  
B) "Rabb'inize yalvara yakara ve gizlice dua edin..." (A'râf suresi, 55. ayet)  
C) "De ki: Duanız olmasa Rabb'im size ne diye değer versin..." (Furkân suresi, 77. ayet)  
D) "Bana dua ettiği vakit dua edenin dileğine karşılık veririm." (Bakara suresi, 186. ayet)

2. Peygamberimize

"Muhammedü'l-Emin" denilmesinin sebebi aşağıdakilerden hangisidir?

- A) Ticaret ile uğraşması  
B) Güvenilir bir insan olması  
C) Alçakgönüllü davranması  
D) Son peygamber olması

3. Arafat Dağı'nda, Kurban Bayramı'nın Arefe günü, güneşin doğuşu ile batışı arasında bir süre bulunmaya ne denir?

- A) Vakfe B) Tavaf  
C) Şavt D) Sa'y

4. Dünyanın dört bir yanından gelen farklı renk, dil ve ırktaki Müslümanlar birbirleriyle tanışır ve kaynaşır. Sosyal ve ekonomik durumu ne olursa olsun her seviyeden insan aynı kıyafetle Allah'ın huzurunda bulunurlar.

**Bu metinde haccın hangi yönüne değinilmiştir?**

- A) İnsana zorluklara karşı dayanma gücü kazandırdığına  
B) Hem mal hem de beden ile yapılan bir ibadet olduğuna  
C) Müslümanlar arasındaki her türlü farklılığı ortadan kaldırarak onları aynı duygu etrafında topladığına  
D) Fakirlere ve yoksullara karşı merhamet duygularını geliştirdiğine

## 2. OTURUM

5. Kur'an'ı Kerim'in kısa açıklamalarla bir dilden başka bir dile aktarılmasına ne denir?

- A) Tecvit                      B) Meal  
C) Hatim                      D) Mukabele

6. • Allah'ın tek olması  
• Allah'ın her şeyi bilmesi  
• Allah'ın sonsuz güce sahip olması

Verilen bilgilerde, Allah'ın aşağıdaki sıfatlarından hangisiyle ilgili bir açıklama yoktur?

- A) İlim                      B) Kelam  
C) Kudret                      D) Vahdaniyet

7. Aşağıdaki kutsal kitap ve gönderildiği peygamber eşleştirmelerinden hangisi yanlıştır?

- A) İncil – Hz. İsa  
B) Zebur – Hz. Davut  
C) Tevrat – Hz. İbrahim  
D) Kur'an-ı Kerim – Hz. Muhammed

8. "... Emrolunduğun gibi dosdoğru ol..."  
(Şûrâ suresi, 15. ayet)

Bu ayet Peygamberimizin niteliklerinden hangisini vurgulamaktadır?

- A) Sıdk                      B) Fetanet  
C) İsmet                      D) Tebliğ

9. Yılın belli günlerinde ihrama girerek Kâbe'yi tavaf etmek, Arafat'ta vakfe yapmak, Mekke ve çevresindeki bazı kutsal yerleri ziyaret ederek yerine getirilen bir ibadettir.

Hakkında bilgi verilen ibadet aşağıdakilerden hangisidir?

- A) Umre                      B) Zekât  
C) Namaz                      D) Hac

10. Allah'ın rızasını kazandıracak her türlü iyi iş ve davranış ibadet olarak kabul edilmektedir.

Buna göre aşağıdaki davranışlardan hangisi ibadet kapsamına girmez?

- A) Eğitime destek vermek  
B) Yaşlılara yardımcı olmak  
C) Yetime ve yoksula sahip çıkmak  
D) Rızkını şans oyunlarına bağlamak

11. "Her şey kendisine muhtaç olduğu halde kendisi hiçbir şeye muhtaç olmayan" anlamına gelen Allah'ın ismi aşağıdakilerden hangisidir?

- A) Kayyûm                      B) Samed  
C) Hay                      D) Âlim

12. Aşağıdakilerden hangisi "salih amel" olarak değerlendirilemez?

- A) İbadetleri insanların beğenisini kazanmak için yapmak  
B) Pazartesi ve Perşembe günleri oruç tutmak  
C) Yurtlarından çıkarılmış mazlumlara yardımcı olmak  
D) Sokak hayvanlarına sahip çıkmak

13. Kurban edilecek hayvanlar ile ilgili verilen bilgilerden hangisi doğrudur?

- A) Eti helal olan bütün hayvanlar kurban olarak kesilebilir.  
B) Sığır ve mandaların üç yaşını doldurmuş olması gerekir.  
C) Koyun ve keçinin bir yaşını doldurmuş olması gerekir.  
D) Develerin iki yaşını doldurmuş olması gerekir.

14. Hz. Peygamber ile ilgili aşağıda verilen bilgilerden hangisi yanlıştır?

- A) En büyük mucizesi Kur'an'dır.  
B) Kur'an-ı Kerim-i ilk açıklayan insandır.  
C) Medine'de doğup Mekke'de vefat etmiştir.  
D) Bütün insanlığa gönderilmiş rahmet peygamberidir.

15. Aşağıdakilerden hangisi tövbenin şartlarından biri değildir?

- A) Yaptığı günahlardan pişmanlık duymak  
B) Bir daha günah işlememeye karar vermek  
C) İşlemiş olduğu günahları bir daha yapmamak  
D) Tövbeyi bir din adamının gözetiminde yapmak

16. Hasan Bey, bir resim sergisinde gördüğü tablonun güzelliği karşısında hayranlığını gizleyemez ve "Bunu yapan ressam ne kadar yetenekli bir sanatçymış." diyerek takdirlerini dile getirir.

Dünyadaki düzene ve tabiattaki güzelliklere bakan bir Müslümanın Hasan Bey'in yorumuna göre aşağıdakilerden hangisini söylemesi doğru olur?

- A) Bu güzelliklerin kendiliğinden meydana gelmesi ne kadar da ilginç.  
B) Bu mükemmel düzeni ve güzellikleri var eden yaratıcı ne kadar yücedir.  
C) Tesadüf eseri bu düzenin meydana gelmesi hayranlık verici.  
D) Bu güzelliklerin sonsuza dek var olacağını bilmek insana yaşama arzusu veriyor.

17. Aşağıdakilerden hangisi farz olan ibadetlerden biri değildir?

- A) Umre yapmak  
B) Zekât vermek  
C) Namaz kılmak  
D) Oruç tutmak

18. Kur'an-ı Kerim'in en uzun ve en kısa suresi aşağıdakilerden hangisidir?

- A) Yasin-Fil  
B) Fatiha-İhlas  
C) Âli İmran-Nas  
D) Bakara-Kevser

19. Aşağıdaki kişilerden hangisi zekât vermeye yükümlüdür?

- A) Borç ve ihtiyaç fazlası 80 gr. altın veya o değerinde mala sahip olan  
B) Borcunu ödeyebilecek kadar mala sahip olan  
C) Kendi ihtiyacı için kullandığı bir arabaya sahip olan  
D) Oturmak için satın alınan bir daireye sahip olan

## 2. OTURUM

20. Aşağıdakilerden hangisi Kur'an'ı anlama ve yorumlamada sakınılması gereken hususlardan biridir?

- A) Ayetlerin iniş sebeplerini göz önünde bulundurmamak
- B) İlahi bir kitap olduğunun farkında olmak
- C) Anlam bütünlüğünü bozacak yorumlardan kaçınmak
- D) Ayetleri kendi menfaat ve isteğine göre yorumlamak

### (114) DİN KÜL. AHL. BİL. – 4

1. Aşağıdaki ayet ve hadislerden hangisi İslam'ın bilime verdiği değere örnek oluşturmaz?

- A) "...Hiç bilenlerle bilmeyenler bir olur mu?..." (Zümer suresi, 9. ayet)
- B) "Ey iman edenler! Allah'ın size helal kıldığı iyi ve temiz şeyleri haram kılmayın..." (Mâide suresi, 87. ayet)
- C) Kıyamet gününde âlimlerin mürekkebi, şehitlerin kanı ile tartılır. (Hadis)
- D) İlim ve hikmet, Müminin yitiğidir. Her nerede bulursa alır. (Hadis)

2. Aşağıdakilerden hangisi Diyanet İşleri Başkanlığı'nın kurulmasındaki amaçlardan biri değildir?

- A) Hurafelerin önüne geçmek
- B) Dinin doğru anlaşılmasını sağlamak
- C) Din hizmetlerinde birliği sağlamak
- D) Dinin devlet üzerindeki etkisini artırmak

3. Aşağıdakilerden hangisi İslam'a göre doğru bilgiye ulaşma yollarından biri değildir?

- A) Akıl
- B) Vahiy
- C) Kehanet
- D) Duyu

4. Aşağıdakilerden hangisi Peygamberimiz (sav.)'e vahyin geliş şekillerinden biri değildir?

- A) Perde arkasından
- B) Cebrail vasıtasıyla
- C) Kalbe ilham yoluyla
- D) Yazılı metin halinde

5. "Gerçek, ancak Rabbindendir. Artık, sakın şüpheye düşenlerden olmayasın."  
(Bakara suresi 147. ayet)

Bu ayette aşağıdakilerden hangisine vurgu yapılmıştır?

- A) Vahyin doğru ve kesin bilgi olduğuna
- B) Aklın kullanılması gerektiğine
- C) Duyu organlarıyla gerçeğin bulunabileceğine
- D) Hz. Peygamberin rahmet olarak gönderildiğine

6. Aşağıda verilen bilgilerden hangisi yanlıştır?

- A) Her insanın eşit olarak yaşama, eğitim, inanç, ibadet gibi hakları vardır.
- B) Hakların özgür olarak kullanılması, kişinin sorumluluğunu kaldırır.
- C) Doğuştan gelen haklar vazgeçilmez ve dokunulmazdır.
- D) Hakların kullanımı, belli kuralara bağlıdır.

7. Aşağıdakilerden hangisi İslam tarihindeki eğitim kurumlarından değildir?

- A) Camiler
- B) Kütüphaneler
- C) Kervansaraylar
- D) Beytül Hikme

8. Aşağıdaki bilgilerden hangisi yanlıştır?

- A) Vahiy ve bilim birbiriyle asla çatışmazlar.
- B) Bilim; akıl, deney ve araştırma yoluyla elde edilir.
- C) İslam'a göre doğru bilgiye yalnızca duyularla ulaşılır.
- D) Allah'ın gönderdiği buyruklar din olarak adlandırılır.

9. Aşağıdaki ifadelerden hangisi yanlıştır?

- A) Din, bireyin sosyalleşmesini engeller.
- B) Hurafeler dinin doğru anlaşılıp yaşanmasına zarar verir.
- C) Cehalet ve taassup dinin yozlaştırılmasına ortam hazırlar.
- D) Bilimsel gelişmeler dinin doğru anlaşılmasına katkı sağlar.

10. • Ehil birine bir konuyu danışmak, görüşünü sormaktır.  
• Temeli, düşünce hürriyetine ve düşüncesini özgürce ifade etme hürriyetine dayanır.

Hakkında bilgi verilen kavram aşağıdakilerden hangisidir?

- A) Dua
- B) İlim
- C) İbadet
- D) İstişare

11. "İlim ve hikmet, Müslümanın yitiğidir. Nerede bulursa onu alır."

Bu hadiste aşağıdaki hak ve özgürlüklerden hangisine işaret edilmiştir?

- A) Eğitim hakkı
- B) Düşünce özgürlüğü
- C) İfade özgürlüğü
- D) İbadet hakkı

12. Aşağıdaki ayetlerden hangisi İslam'ın yaşama hakkına verdiği önemi ifade eder?

- A) "Dinde zorlama yoktur. Hakikat, iman ile küfür apaçık meydana çıkmıştır..." (Bakara suresi, 256. ayet)
- B) "Ey insanlar! Sizi ve sizden öncekileri yaratan Rabbinize kulluk ediniz..." (Bakara suresi, 21. ayet)
- C) "Ey inananlar! Mallarınızı aranızda haksızlık yaparak değil, karşılıklı rıza ile yapılan ticaretle yiyin..." (Nisâ suresi, 29. ayet)
- D) "Kim bir kimsenin hayatını kurtarırsa, bütün insanları kurtarmış gibidir." (Mâide suresi, 32. ayet)

13. Aşağıdaki âlimlerden hangisinin çalışmaları diğerlerinden farklı bir alandadır?

- A) Biruni
- B) Buhari
- C) Uluğ Bey
- D) Ali Kuşçu

14. • Abbasiler tarafından kurulmuştur.  
• Felsefe ve fen ilimlerinin okutulduğu eğitim kurumlarıdır.

Hakkında bilgi verilen eğitim kurumu aşağıdakilerden hangisidir?

- A) Suffe
- B) Kütüphane
- C) Beytül-Hikme
- D) Nizamiye Medresesi

## 2. OTURUM

15. “De ki; O Kur’an, Rabb’inizden gelen bir haktır. Artık dileyen iman etsin, dileyen inkâr etsin...”  
(Kehf suresi, 29. ayet)

**Bu ayet aşağıdakilerden hangisiyle ilgilidir?**

- A) İbadet hakkı  
B) İnanç özgürlüğü  
C) Düşünce özgürlüğü  
D) İfade özgürlüğü

16. “Sizden evvelkilerin mahvolmalarının sebebi şudur ki: İçlerinden şerefli bir kimse hırsızlık yapınca onu cezasız bırakır; zayıf birisi çalınca kanunu tatbik eder, onu cezalandırırlardı. Allah’a yemin ederim ki, Muhammed’in kızı Fatıma da hırsızlık etse, cezasız bırakmazdım.”

**Bu hadiste aşağıdakilerden hangisi vurgulanmıştır?**

- A) Kanunlar önünde herkesin eşit tutulması gerektiği  
B) Zengin ve soylu olanların kayırılması gerektiği  
C) Fakir ve yoksul olanların affedilmesi gerektiği  
D) Adaletin bazı dönemlerde yanlış uygulandığı

17. **Atatürk’ün**, “insan ve toplum hayatı için vazgeçilmez bir müessesе, milletleri yükselten ve onların devamlılığını sağlayan en önemli unsurlardan biri” **olarak gördüğü kurum aşağıdakilerden hangisidir?**

- A) Örf  
C) Ahlâk
- B) Din  
D) Kültür

18. • Sıfırlı ondalık sistemi ilk bulan kişidir.  
• Matematikte cebir ve logaritmanın kurucusu sayılır.  
• Matematiğin yanında astronomi ve coğrafya alanlarında da birçok buluş yapmıştır.

**Hakkında bilgi verilen İslam âlimi aşağıdakilerden hangisidir?**

- A) El Kindî  
C) Ali Kuşçu
- B) Uluğ Bey  
D) Harezmi

19. Bir düşünceye veya bir inanışa körü körüne bağlanmak, taraf olmak; kendi görüşünden başka diğer görüş ve düşüncelere hayat hakkı tanımamaya - - - - denir.

**Boş bırakılan yere aşağıdakilerden hangisi getirilemez?**

- A) tefekkür  
C) bağnazlık
- B) taassup  
D) fanatizm

20. **Aşağıdakilerden hangisi Hz. Muhammed (sav.)’in ilme verdiği önemi gösteren örneklerden biridir?**

- A) Erdemliler birliğine üye olması  
B) Hudeybiye anlaşmasını imzalaması  
C) Mescid-i Nebi’nin bitişiğine Suffe’yi yaptırması  
D) Mekke’nin fethiyle Kabe’yi putlardan temizlemesi

### (123) SEÇ. FELSEFE – 1

1. İnsan yaşamının ve eylemlerinin dayandığı ilkelerin irdelenmesi ve temellendirilmesi, insanın bu dünyadaki varoluşunu anlamlandırması açısından büyük önem taşır. Yaşamın dayandığı ilkeleri sorgulamadan ve temellendirmeden gerçekleştirilecek bir varoluş sıradan temelsiz bir varoluştur.

**Varoluşun sıradanlıktan kurtulması aşağıdakilerden hangisine dayandırılmıştır?**

- A) Yaşamın araştırma ve sorgulamaya dayanması  
B) Hayatın olduğu gibi kabul edilmesi  
C) Olaylara farklı açıdan bakılması  
D) Duygulara göre hareket edilmesi

2. **Aşağıdakilerden hangisi felsefenin ele aldığı konulardan değildir?**

- A) Sanat  
C) Varlık
- B) Bilgi  
D) Sosyal grup

3. **Bilimsel bilgide özne ile nesne arasındaki bağ aşağıdakilerden hangisiyle kurulur?**

- A) İnanç  
B) Beğeni  
C) Hayal gücü  
D) Deney ve gözlem

4. **Aşağıdakilerden hangisi felsefe ve sanatın ortak özelliklerindedir?**

- A) Akıl ilkelerine dayanma  
B) Doğruya ulaşmayı amaçlama  
C) Özne olma  
D) Güzeli bulmaya çalışma

5. **Aşağıdakilerden hangisi bilgi felsefesinin temel kavramlarındandır?**

- A) Vicdan  
C) Güzellik
- B) Doğruluk  
D) İyi

6. Bilgi felsefesi, bilginin kaynağını, ilkelerini, yöntemini araştıran felsefe dalıdır.

**Aşağıdakilerden hangisi bilgi felsefesinin konularından değildir?**

- A) Bilginin değeri  
B) Bilginin sınırları  
C) Varlığın ana maddesi  
D) Bilginin kaynağı

7. • Sofistlere göre bilgi kişiden kişiye değişir.  
• Septiklere göre, farklı koşullar özneyi farklı şekilde etkilediği için bilgi konusunda kesin yargılara ulaşılamaz.

**Bu yaklaşımların bilgi konusundaki ortak yönleri aşağıdakilerden hangisidir?**

- A) Bilginin kişiden kişiye değişmeyeceği  
B) Genel geçer doğru bilginin olmayacağı  
C) Kesin bilgiye akıl ile ulaşılabileceği  
D) Doğru bilgiye ulaşılabileceği

8. **Doğru bilginin kaynağını akıl ve deney olarak gören felsefi yaklaşım aşağıdakilerden hangisidir?**

- A) Kritisizm  
C) Pozitivizm
- B) Empirizm  
D) Pragmatizm

## 2. OTURUM

9. Empiristler, bilginin kaynağında sadece deney ve gözlemin bulunduğunu, insan aklında doğuştan hiçbir bilginin olmadığını kabul ederek insan zihnini boş bir levhaya benzetirler.

**Empiristlerin eleştirdiği görüş aşağıdakilerden hangisidir?**

- A) Bilginin kaynağı deneydir.
- B) Bilginin kaynağı akıldır.
- C) Bilginin kaynağı sezgidir.
- D) Bilginin kaynağı duyumlardır.

10. Aşağıdakilerden hangisi pozitivizm akımının temsilcilerindedir?

- A) Sokrates
- B) Farabi
- C) Platon
- D) Auguste Comte

11. Bilim felsefesinin konusu aşağıdakilerden hangisidir?

- A) Varlık
- B) Bilim
- C) Estetik
- D) Bilgi

12. Aşağıdakilerden hangisi Rönesans döneminin özelliklerinden değildir?

- A) İnsan aklı ön plana çıkmıştır.
- B) Bireycilik anlayışı gelişmiştir.
- C) Bilim, din ve felsefenin etkisine girmiştir.
- D) Hümanizm anlayışı hakim olmaya başlamıştır.

13. Bilimsel bilginin uygulama alanı aşağıdakilerden hangisidir?

- A) Teknoloji
- B) Din
- C) Felsefe
- D) Metafizik

14. Carnap'a göre doğruluğu ve yanlışlığı sınınamayan önermeler anlamsız metafizik önermelerdir.

**Buna göre aşağıdakilerden hangisi anlamsız önermedir?**

- A) Tüm metaller ısınınca genişler.
- B) Bugün hava yağışlıdır.
- C) Ruh ölümsüzdür.
- D) Kar beyazdır.

15. Bilimsel bir çalışmanın gelişmesi güzel değil, bir yol izlenerek yapılması bilimsel bilginin hangi özelliğinden kaynaklanmaktadır?

- A) Olgusallığı
- B) Tutarlılığı
- C) Eleştireciliği
- D) Geçerli yöntemle elde edilmesi

16. Bilim, döneminin değerlerinden, inançlarından bağımsız değildir. Bilim adamlarını yaşadığı toplumun inançları, değerleri ve kültürel değişimleri etkilemektedir.

**Görüşleri verilen yaklaşım aşağıdakilerden hangisine aittir?**

- A) Mantıkçı pozitivizm
- B) Etkinlik olarak bilim
- C) Ürün olarak bilim
- D) Klasik görüş

17. Olgulararası ilişkilerden, bilimsel açıklamalardan yararlanarak olmamış bir olayı önceden kestirme bilimlerin aşağıda verilen hangi özelliğinden kaynaklanmaktadır?

- A) Nesnel olma
- B) Objektif olma
- C) Olgusal olma
- D) Öndeyide bulunma

18. Evrende değişmeyen hiçbir şey olmadığını savunan Herakletios bu değişimi "Aynı ırmakta iki kez yıkanamazsınız" sözüyle dile getirir.

**Herakletios'un bu düşüncesi aşağıdakilerden hangisine uygunluk gösterir?**

- A) Varlık düşüncedir.
- B) Varlık oluşturmaktır.
- C) Varlık maddedir.
- D) Varlık ideadır.

19. Evreni nesnel ve idealar dünyası olarak ayıran, idealar dünyasını ise öncesiz, sonrasız olarak gören filozof aşağıdakilerden hangisidir?

- A) Demokritos
- B) Hobbes
- C) Descartes
- D) Platon

20. I. Ruh  
II. Madde  
III. Hava  
IV. Ateş

**Descartes'in öne sürdüğü birbirinden farklı iki töz verilenlerden hangisidir?**

- A) I ve II
- B) I ve III
- C) II ve III
- D) II ve IV

### (124) SEÇ. FELSEFE – 2

1. İdeal düzenin kurulması için özgürlük ve eşitlik tek başına yeterli değildir. Bunları kaynaştıracak üçüncü bir ölçüt gerekir.

**Açıklamada bahsedilen üçüncü ölçüt aşağıdakilerden hangisidir?**

- A) Adalet
- B) Laiklik
- C) Meşruiyet
- D) Demokrasi

2. Aşağıdakilerden hangisi, her türlü otoritenin, insanın üzerinde baskı kurarak yaratıcılığını, özgürlüğünü yok edeceğini gerekçe göstererek, ideal düzenin olamayacağını savunan felsefi görüştür?

- A) Determinizm
- B) Liberalizm
- C) Utilitarizm
- D) Nihilizm

3. Aşağıdakilerden hangisinde Farabi'nin "Erdemli Şehir" ütopyasıyla ilgili yanlış bilgi verilmiştir?

- A) İnsanlar Tanrı inancına sahip değildir.
- B) Evrensel barıştan söz edilmiştir.
- C) Farabi toplumu insan bedenine benzetir.
- D) Devletin başkanı bilginler arasından seçilir.

4. I. Sanat ve oyun arasında benzerlikler vardır.  
II. Sanat sanatçının nesnelere taklit etmesiyle ortaya çıkar.  
III. Sanat eseri sanatçının madde ve biçimle oynamasıyla ortaya çıkar.

**Yukarıdaki yargılardan hangileri sanatı oyun olarak kabul eden görüşe uygundur?**

- A) I ve II
- B) I ve III
- C) II ve III
- D) I, II ve III



## 2. OTURUM

5. "Gerçeklikte tiksinierek baktığımız şeylere, bir sanat eseri hâline gelince hayranlıkla bakarız"

**Aristoteles bu ifadesiyle aşağıdakilerden hangisini vurgulamak istemiştir?**

- A) Sanat doğada güzel olandır.  
B) Doğanın güzelliği insandan bağımsızdır.  
C) Sanat eseri gerçeği yansıttığı kadar güzeldir.  
D) Doğadaki güzellik ile sanattaki güzellik birbiriyle örtüşmeyebilir.

6. **Aşağıdakilerden hangisi estetiğin temel kavramlarından**

- A) İyi B) Kutsal  
C) Güzel D) Erdem

7. "Kimi menekşeyi sever, kimi orki-deyi; kimi halk müziği sever, kimi klasik batı müziği; kimi Picasso'nun resimlerini beğenir, kimi Salvador Dalí'nin"

**Bu parçaya dayanarak aşağıdaki yargılardan hangisine ulaşılabilir?**

- A) Ortak estetik yargılar olamaz.  
B) Sanat eseri yaratıcılığın ürünüdür.  
C) Estetik yargılar kültürden etkilenir.  
D) Güzellik sadece sanat eserine ait bir özelliktir.

8. Ey Muhammed de ki: "Ben yalnızca sizin gibi bir beşerim. Bana ilahınızın sadece bir ilah olduğu vahyolunuyor. Her kim Rabbine kavuşmayı umuyorsa, iyi iş yapsın ve Rabbine ibadette hiçbir şeyi ortak koşmasın." (Kehf Suresi, 18:110)

**Yukarıdaki ayette din felsefesinin temel kavramlarından hangisi yoktur?**

- A) Tanrı B) Vahiy  
C) Peygamber D) Yüce

9. **Tek Tanrılı dinlerdeki yaratana yaratılan ayrılığını reddederek, Tanrıyla evreni bir tutan görüş aşağıdakilerden hangisidir?**

- A) Teizm B) Deizm  
C) Panteizm D) Agnostisizm

10. **Tanrı'nın varlığını reddedenlerin, "herşeyi bilen, en yüce ve en iyi olan bir Tanrı neden evrendeki acı, kötülük ve yetersizlikleri yaratmıştır?" sorusuna dayanarak ileri sürdükleri kanıt aşağıdakilerden hangisidir?**

- A) Ontolojik kanıt  
B) Kötülük kanıtı  
C) Ahlaki gerekçeler kanıtı  
D) Kozmolojik kanıt

11. **Aşağıdakilerden hangisi ahlak felsefesinin temel kavramlarından değildir?**

- A) Erdem B) Sorumluluk  
C) İktidar D) Özgürlük

12. • İyi, insanın seçimiyle değer verilir.  
• Özgürlük, bireyin bir baskı ve zorlama olmadan kendi seçimlerine göre isteklerini gerçekleştirmesidir.

**Bunlara göre özgürlük ve iyinin ortak yönü aşağıdakilerden hangisinde verilmiştir?**

- A) İnsan iradesine dayanması  
B) İnsanın sadece iyiye yönelmesi  
C) İnsana fayda sağlaması  
D) İnsanın ölçülü hareket etmesi

13. **Aşağıdaki yaklaşımlardan hangisi evrensel ahlak yasasının varlığını kabul eder?**

- A) Haz ahlakı  
B) Sezgicilik  
C) Fayda ahlakı  
D) Anarşizm

14. Aristoteles'e göre cesaret denilen erdem, bilgiye dayanmayan gözünü budaktan sakınmama ile korkaklık arasında bir özelliktir.

**Aristoteles'e göre aşağıdakilerden hangisi erdemdir?**

- A) Davranışlardan haz almak  
B) Kendi çıkarını düşünmek  
C) Kural tanımamak  
D) İki aşırı uç arasında orta yolu bulmak

15. Sartre'a göre insan, kendinden önce gelen ve onu belirleyen bir öze sahip değildir. İnsan önce var olmuş sonra kendi özünü oluşturmuştur.

**Buna göre Sartre'ın düşüncesi aşağıdaki yargılardan hangisini desteklemez?**

- A) İnsanın kendi tercihleri vardır.  
B) İnsan, yaşamını kendi belirler.  
C) İnsan özgür bir varlıktır.  
D) İnsanın özü önceden belirlenmiştir.

16. **Ahlak anlayışını varlık felsefesine dayandırarak, evren ve tanrıyı bir gören, insanın bilgi sayesinde olumsuz duygulardan kurtulacağını söyleyen panteist filozof aşağıdakilerden hangisidir?**

- A) Spinoza B) Kant  
C) Platon D) Sokrates

17. **Tasavvuf düşüncesinde Tanrıya ulaşabilme yolu aşağıdakilerden hangisidir?**

- A) Deney  
B) Akıl  
C) Sezgi ve aşk  
D) Çıkar duygusu

18. **Aşağıdakilerden hangisi siyaset felsefesinin temel kavramlarından**

- A) Doğruluk B) Yönetim  
C) Erdem D) Bilgi

19. **İnsanı her şeyin ölçüsü olarak kabul eden sofistlerin ideal düzenle ilgili temel düşüncesi aşağıdakilerden hangisidir?**

- A) İdeal düzen yoktur.  
B) İdeal düzen eşitliğe dayanmalıdır.  
C) İdeal düzen adalete dayanmalıdır.  
D) İdeal düzen özgürlüğe dayanmalıdır.

## 2. OTURUM

20. İnsanda duygu, cesaret ve akıl olmak üzere üç yeti vardır. Bu üç yeti devlette üretici sınıf, asker sınıfı ve yönetici sınıfa karşılık gelir. İdeal devlet filozofların krallığında gerçekleşecektir.

Verilen düşünce aşağıdaki filozoflardan hangisine aittir?

- A) Sokrates B) Platon  
C) Aristoteles D) Protagoras

### (151) COĞRAFYA – 1

1. Atmosferde meydana gelen doğa olaylarını inceleyen bilim dalı aşağıdakilerden hangisidir?

- A) Biyocoğrafya B) Hidroğrafya  
C) Jemorfoloji D) Klimatoloji

2. Aşağıdakilerden hangisi her haritada bulunmak zorundadır?

- A) Ölçek B) İzohipsler  
C) İdari sınırlar D) Nüfus dağılışı

3. İsteddiğimiz kadar paralel çemberi çizebilecek iken paralel sayısının 180 tane olmasının sebebi nedir?

- A) Dünyanın geoit şeklinde olması  
B) Ekvatora paralel uzanmaları  
C) Birer derece açıyla çizilmeleri  
D) Kutuplarda nokta halini alması

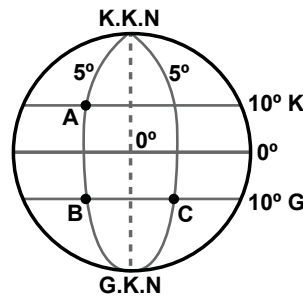
4. Haritalarda Dünya'nın şeklini dolaylı olarak oluşturan bozulmaları en aza indirmek için kullanılan yöntemlere ne ad verilir?

- A) Lejant B) Projeksiyon  
C) Ölçek D) İzohips

5. Renklendirme yöntemiyle hazırlanmış bir haritada renkler doğrudan neyi ifade etmektedir?

- A) Bitki örtüsünü  
B) Yer şekillerini  
C) Eğim değerlerini  
D) Yükselti basamaklarını

6.



Şekilde gösterilen A, B, C noktaları için aşağıdakilerden hangisi söylenemez?

- A) C Doğu Yarım Küre'dedir.  
B) A ile B'nin yerel saatleri aynıdır.  
C) A ile B arası kuş uçuşu uzaklık 1110 km'dir.  
D) B ile C başlangıç meridyenine eşit uzaklıktadır.

7. Aşağıdakilerden hangisi Dünya'nın şeklinin küre değil de geoit olduğunu kanıtlar?

- A) Paralellerin boyları  
B) Yerçekiminin değişmesi  
C) Çizgisel hızın değişmesi  
D) Güneş ışınlarının geliş açısı

8. Aşağıdaki gazlardan hangisinin atmosfer içerisindeki oranı yere ve zamana göre değişir?

- A) Su buharı B) Oksijen  
C) Helyum D) Azot

9. I. Gece-gündüz süresinin yıl boyunca değişmesi  
II. Ekvator'dan kutuplara gidildikçe çizgisel hızın azalması  
III. Ardışık iki meridyen arasında 4 dk'lık zaman farkının olması  
IV. Kalıcı kar sınırının Ekvator'da daha yüksekte başlaması

Yukarıda verilenlerden hangileri Dünya'nın küresel bir şekle sahip olması sonucu oluşmuştur?

- A) I ve II B) I ve III  
C) II ve IV D) III ve IV

10. I. Yer şekilleri  
II. Ekvator'a olan uzaklığı  
III. Başlangıç meridyenine uzaklığı

Yukarıdakilerden hangisi bir yerin sıcaklığı üzerinde etkili değildir?

- A) Yalnız III B) I ve II  
C) I ve III D) II ve III

11. Aşağıda Ekvator'dan kutuplara doğru gidildikçe değişiklik gösteren durumlardan bazıları verilmiştir. Bunlardan hangisi diğer üçünün nedenidir?

- A) Sıcaklığın azalması  
B) Bitki örtüsünün değişmesi  
C) Denizlerin tuzluluk oranının azalması  
D) Güneş ışınlarının geliş açısının daralması

12. I. Dünya'nın şekli  
II. Dünya'nın günlük hareketi  
III. Dünya'nın yıllık hareketi  
IV. Kara ve denizlerin farklı ısınma özelliği

Muson rüzgarlarının oluşumunda yukarıdakilerden hangileri etkili olmuştur?

- A) I ve II B) II ve III  
C) III ve IV D) II ve IV

13. Aşağıda verilenlerden hangisi bir yerin basınç değerini etkileyen etmenler arasında gösterilemez?

- A) Yükselti B) Sıcaklık  
C) Yer çekimi D) Bitki örtüsü

14. Aşağıdaki tarihlerin hangisinde Dünya'nın her yerinde gece ve gündüz süreleri eşittir?

- A) 3 Ocak B) 23 Eylül  
C) 21 Haziran D) 21 Aralık

15. Troposfer katmanının kalınlığı Ekvator çevresinde ortalama 12 km. iken kutuplarda 6 km.'ye kadar incelmektedir. Bu farklılığın sebebi nedir?

- A) Sıcaklık  
B) Yükselti  
C) Basınç  
D) Kara ve denizlerin dağılışı

16. Çöl bölgelerinde gece ile gündüz arasındaki sıcaklık farkının fazla olmasının esas nedeni nedir?

- A) Mutlak nemin az olması  
B) Bitki örtüsünün zayıf olması  
C) Rüzgar aşındırmasının fazla olması  
D) Çöllerin dönenceler çevresinde bulunması

## 2. OTURUM

(152) COĞRAFYA – 2

17. Aşağıdaki okyanus akıntılardan hangisi ulaştığı yerin sıcaklığını yükseltir?

- A) Kanarya B) Gulf Stream  
C) Labrador D) Oyoşiva

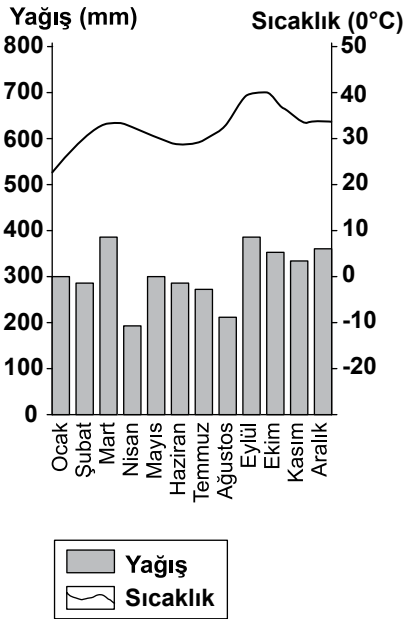
18. Aşağıdakilerden hangisi karstik birikim şekillerinden biridir?

- A) Lapyta B) Dolin  
C) Sütun D) Uvala

19. Aşağıdaki yerçekillerinden hangisi buzullar tarafından oluşturulmuştur?

- A) Tafoni  
B) Düden  
C) Menderes  
D) Sander düzlüğü

20. Aşağıda bir yerin yıllık yağış ve sıcaklık grafiği verilmiştir.



Sadece grafiğe bakılarak bu yer hakkında aşağıdakilerden hangisi kesinlikle söylenebilir?

- A) Başlangıç meridyeninin doğusunda yer alır.  
B) Dönenceler arasında yer alır.  
C) Doğal bitki örtüsü makidir.  
D) Nüfus miktarı fazladır.

1. İnsanların yerleşik hayata geçmesinde etkili olan olgu aşağıdakilerden hangisidir?

- A) Doğal afetler  
B) İklim değişiklikleri  
C) Tarımsal faaliyetler  
D) Madenlerin işlenmesi

2. Aşağıdakilerden hangisi insanın doğal çevre üzerindeki etkisine örnek gösterilebilir?

- A) Depremler B) Küresel ısınma  
C) Tsunami D) Volkanizma

3. Aşağıdaki bölge türlerinden hangisi insan yaşamı için elverişli değildir?

- A) Sanayi bölgesi  
B) Ovalık bölgeler  
C) Turizm bölgesi  
D) Tundra iklim bölgesi

4. İnsanlar, tehlikeli olmasına rağmen volkanik araziler üzerinde yerleşmeyi tercih etmişlerdir.

Bu durumun sebebi aşağıdakilerden hangisidir?

- A) Yer şekillerinin sade olması  
B) Su kaynaklarının bulunması  
C) Topraklarının verimli olması  
D) Sıcaklık ortalamasının yüksek olması

5. Aşağıdakilerden hangisi insanların sürekli yaşadığı köy altı yerleşme tiplerinden değildir?

- A) Mahalle B) Divan  
C) Çiftlik D) Yayla

6. Karadeniz Bölgesi'nde dağınık yerleşmelerin görülmesinde aşağıdakilerden hangisi etkili olmamıştır?

- A) Yer şekillerinin engebeli olması  
B) Tarım arazilerinin parçalı olması  
C) Kıyıların balıkçılık faaliyetine uygun olması  
D) Zengin su kaynaklarının bulunması

7.



Aşağıdakilerden hangisi haritada işaretlenmiş dağların ortak özelliğidir?

- A) Kıvrım dağ olmaları  
B) İklimlerinin aynı olması  
C) Yükseltilerinin aynı olması  
D) Karstik kayalardan oluşması

8. Aşağıdaki akarsularımızdan hangisi menderesler içinde akış gösterir?

- A) Fırat B) Bakırçay  
C) Göksu D) Çoruh

9. Ülkemizde depremlerin sıklıkla yaşanmasının nedeni aşağıdakilerden hangisidir?

- A) Üç farklı iklimin görülmesi  
B) Ortalama yükseltilerinin fazla olması  
C) Üç tarafının denizlerle çevrili olması  
D) Alp-Himalaya kıvrım sistemi üzerinde bulunması

10. Aşağıdakilerden hangisi kıyı ovalarımız arasında gösterilemez?

- A) Çukurova  
B) Bafra Ovası  
C) İnegöl Ovası  
D) Çarşamba Ovası

11. Aşağıdaki yer şekillerinden hangisi ülkemizin turizm potansiyeline daha çok katkı sağlamaktadır?

- A) Çukurova  
B) Öbrük Gölü  
C) Bolkar Dağları  
D) Pamukkale Travertenleri

## 2. OTURUM

12. İğdir'da pamuk yetiştirilebilirken çevre illerde yetiştirilememesinin sebebi ülkemizin hangi özelliği ile açıklanabilir?

- A) 36° - 42° kuzey paralelleri arasında yer alması
- B) Yer şekillerinin kısa mesafede değişiklik göstermesi
- C) Dağların genelde doğu-batı yönde uzaması
- D) Üç farklı iklimin belirgin olarak yaşanması

13. Aşağıda verilen yerel rüzgarlardan hangisi ülkemizde kuzeyden esmektedir?

- A) Yıldız
- B) Samyeli
- C) Kible
- D) Lodos

14. Ülkemizde bitki örtüsü ve yetiştirilen tarım ürünleri oldukça çeşitlidir.

**Bunda ülkemizin aşağıdaki özelliklerinden hangisinin payı daha fazladır?**

- A) Farklı iklimlerin yaşanması
- B) Ortalama yükseltisinin fazla olması
- C) Üç tarafının denizlerle çevrili olması
- D) Dağların doğu - batı yönde uzanması

15. Aşağıdakilerden hangisi yaşadığımız yerin fiziki coğrafya özellikleri arasında gösterilemez?

- A) Yer şekilleri
- B) Nüfus miktarı
- C) Su kaynakları
- D) İklim özellikleri

16. İnsanların deniz aşırı yerlerle ticari faaliyetlerde bulunması aşağıdaki şehirlerden hangisinin gelişmesine neden olmuştur?

- A) Liman kentleri
- B) Askeri kentler
- C) İdari kentler
- D) Maden kentleri

17. Aşağıdaki yerleşmelerden hangisi çizgisel doku özelliği gösterir?

- A) Toplu yerleşmeler
- B) Dağınık yerleşmeler
- C) Yol boyu yerleşmeleri
- D) Düzensiz kent yerleşmeleri

18. Aşağıda verilen illerin hangisinde yıllık ortalama sıcaklık daha yüksektir?

- A) Kocaeli
- B) İzmir
- C) İstanbul
- D) Kayseri

19. Bitki örtüsü özelliklerine göre belirlenmiş bölgeler aşağıdakilerden hangisiyle paralellik gösterir?

- A) İklim bölgeleri
- B) Tarım bölgeleri
- C) Siyasi bölgeler
- D) Sanayi bölgeleri

20. Aşağıdaki şehirlerden hangisinin gelişmesinde Sanayi Devrimi'nin katkısı daha fazladır?

- A) Dini şehirler
- B) İdari şehirler
- C) Askeri şehirler
- D) Maden şehirleri

(181) İNGİLİZCE - 1

1-20. sorularda boş bırakılan yere uygun gelen kelime ya da ifadeyi işaretleyiniz.

1. - - - - has her breakfast at 8:30 in the mornings.

- A) I
- B) She
- C) We
- D) They

2. I and my brother Ali have got sports cars. My car is black, - - - - car is red.

- A) my
- B) her
- C) his
- D) he

3. Mehmet is a hardworking student. He - - - - gets high marks.

- A) seldom
- B) never
- C) rarely
- D) always

4. Some people - - - - eat meat. They are vegetarian.

- A) never
- B) always
- C) often
- D) usually

5. I am very hot now. Could you - - - - the window, please?

- A) get
- B) take
- C) open
- D) come

6. The plane - - - - in İstanbul at 8:00 yesterday morning.

- A) played
- B) landed
- C) stopped
- D) watched

7. We - - - - this film two years ago.

- A) cut
- B) listened
- C) broke
- D) watched

8. I usually - - - - to work by bus, but today I - - - - to work.

- A) goes / walks
- B) go / am walking
- C) goes / am walking
- D) going / am walking

9.



The bank is - - - - the post office and the supermarket.

- A) between
- B) in front of
- C) opposite
- D) under

## 2. OTURUM

10. **Ahmet has been studying Maths since the beginning of this week. I think - - - - .**

- A) he will fail his exams
- B) he will get high marks
- C) he doesn't like studying
- D) he isn't a hardworking student

11. **Kaan - - - - speak to his girlfriend because she broke his heart.**

- A) didn't            B) hasn't
- C) don't            D) isn't

12. **Oğuz - - - - his grandmother when he is in Ankara.**

- A) is visiting
- B) had visited
- C) was visiting
- D) is going to visit

13. **Many years ago, they - - - - in a big castle but now they - - - - in poverty.**

- A) lived / were
- B) live / used to be
- C) used to live / are
- D) used to live /were

14.



He is - - - - .

- A) reading a history book
- B) watering the flowers
- C) talking to his friend
- D) watching a movie

15. **A: Oh! I have a meeting in an hour.**

**B: You - - - - be there on time if you hurry.**

- A) must            B) would
- C) should        D) will

16. **A: It is very hot here.**

**B: Don't worry! I'll - - - - on the air conditioner.**

- A) turn            B) buy
- C) get            D) go

17. **A: - - - - Melis speak English?**

**B: Yes, - - - - .**

- A) Do / she does
- B) Does / she isn't
- C) Does / she does
- D) Do / she doesn't

18. **A: I need - - - - money.**

**B: I'm sorry. I haven't got - - - - .**

- A) some / some    B) some / any
- C) any / any        D) any / some

19. **A: What are they doing?**

**B: - - - - .**

- A) They are climbing
- B) They like swimming
- C) They will write a letter
- D) They have already finished it

20. **A: - - - - ?**

**B: Sorry, I'm using it now.**

- A) May I open the window
- B) What can I cook for you
- C) Are you planning to go with him
- D) Could you give me your dictionary

### (181) ALMANCA – 1

**1-19. sorularda boş bırakılan yere uygun gelen kelime ya da ifadeyi işaretleyiniz.**

1. **Das sind - - - - neuen Freunde. Sie - - - - Deutsche.**

- A) unser / ist    B) unsere / sind
- C) uns / sind    D) unsere / ist

2. **Guten Morgen! Ich ..... Peter und das ..... Ali.**

- A) heiße / ist    B) heißt / ist
- C) heiße / bin    D) heißt / bin

3. **Hallo, ich - - - - Susanne. Wer - - - - du?**

- A) bin / heiße
- B) heißen / heißt
- C) bin / bist
- D) bist / heißen

4. **Mai, - - - - , Juli**

- A) Juni            B) August
- C) September    D) April

5. **Lehrer : Ali, wo ist - - - - Tasche?**

**Ali : - - - - Tasche ist unter dem Tisch.**

- A) mein / Meine
- B) dein / Deine
- C) mir / Dir
- D) deine / Meine

6. **Thomas: - - - - machst du nach der Schule?**

**Atakan : Ich - - - - in die Bibliothek.**

- A) Wer / geht
- B) Was / gehe
- C) Warum / komme
- D) Wie / komme

7. **- - - - 24. November habe ich Geburtstag.**

- A) Am    B) Im    C) Um    D) Bei

8. **A: Hasan, kannst du bitte das Fenster - - - - ?**

**B: Ja, natürlich.**

- A) schreibe        B) aufstehen
- C) setzen            D) öffnen

9. **A: Wann gehst du zum Arzt?**

**B: - - - - 14.00 Uhr.**

- A) Am    B) Im    C) Um    D) Bis

10. **Mittwoch, Donnerstag, - - - -**

- A) Samstag        B) Freitag
- C) Sonntag        D) Dienstag

11. **A: ..... ist Ahmet?**

**B: Er ist 16 Jahre alt.**


- A) Wie alt            B) Wo wohnt
- C) Was ist            D) Wie heißt

12. **Ein Jahr hat zwölf - - - - .**

- A) Tage            B) Wochen
- C) Monate        D) Jahre

## 2. OTURUM

13.



**A: Wo ist meine Tasche?**  
**B: Sie ist - - - - dem Tisch.**

- A) auf            B) neben  
C) über          D) unter

14. Ich habe viel- - - - Bücher gelesen.

- A) -er   B) -e   C) -es   D) -en

15. 16, - - - -, 18

- A) fünfzehn    B) sieben  
C) siebzehn    D) neunzehn

16. **A: Klaus und Thomas, - - - - ihr heute Sportunterricht?**  
**B: Nein, wir haben - - - - Sportunterricht.**

- A) hat / eine    B) haben / eine  
C) habt / kein   D) hat / keine

17.



**Wo ist das Kleid?**

**Es - - - - im Kleiderschrank.**

- A) hängt          B) stehen  
C) hängen        D) hören

18. Mein Freund fragt, - - - - ich Auto fahren kann?

- A) wie            B) so  
C) was           D) ob

19.



**A: Wie spät ist es?**  
**B: - - - - .**

- A) Viertel nach vier  
B) Viertel vor vier  
C) Viertel nach fünf  
D) Viertel vor fünf

20. Aşağıdakilerden hangisi anlamca diğerlerinden farklıdır?

- A) Ayran          B) Banane  
C) Limonade      D) Wasser

### (181) FRANSIZCA – 1

**1-16. sorularda boş bırakılan yere uygun gelen kelime ya da ifadeyi işaretleyiniz.**

1. - - - - aiment la cuisine chinoise.

- A) Elle            B) Nous  
C) Ils             D) Vous

2. Hier soir, - - - - a dîné au restaurant.

- A) elles          B) tu  
C) je              D) il

3. Sibel et Melek - - - - en Espagne par avion avec la compagnie Turkish Airlines.

- A) sont arrivées  
B) sont arrivés  
C) êtes arrivés  
D) sommes arrivés

4. Samedi dernier, ma fille - - - - acheté le nouveau CD de Candan Erçetin.

- A) as    B) a    C) es    D) est

5. Les élèves - - - - sortis de la cantine.

- A) sont            B) ont  
C) est             D) êtes

6. Canan a passé - - - - à Sinop.

- A) le visage      B) la rue  
C) les yeux       D) les vacances

7. Le bébé du voisin a pleuré - - - - la nuit.

- A) personne      B) toute  
C) chaque        D) aucun

8. J'ai - - - - professeur d'anglais que l'an dernier.

- A) les mêmes    B) certaine  
C) les autres     D) le même

9. **A: Ali est marié?**  
**B: Non, - - - - .**

- A) elle est morte  
B) il est jeune  
C) elle est grande  
D) il est divorcé

10. Si nous étions en été, il - - - - chaud.

- A) a fait            B) ferait  
C) ont fait         D) faisait

11. Si tu veux, nous - - - - ensemble avant d'aller au concert.

- A) mangerons  
B) avions mangé  
C) mangerions  
D) aviez mangé

12. **A: Vous écoutez les informations à la radio?**

**B: Non, je - - - - les informations à la radio.**

- A) n'écoutent pas  
B) n'écoute pas  
C) ne pas écouter  
D) écouter



## 2. OTURUM

13. A: Tu as déjà vu le Mont Nemrut?  
B: Non, je ne ---- ai pas vu.  
A) le (l') B) lui  
C) la (l') D) leur

14. A: Tu aimes la danse africaine?  
B: Oui, je ---- aime bien.  
A) les B) le (l')  
C) la (l') D) des

15. A: Est-ce qu'il y a de l'eau fraîche dans le frigo?  
B: Non, il n'y a pas ---- eau fraîche dans le frigo.  
A) des B) de la  
C) de (d') D) du

16. Un peigne sert à ----.  
A) lire  
B) se coiffer  
C) dormir  
D) se brosser les dents

17. Cümleler sırasıyla okunduğunda anlam bütünlüğünü bozan cümleyi bulunuz.  
(I) Elle est souriante. (II) Elle continue tout droit. (III) Elle a les yeux bleus. (IV) Elle porte des lunettes.  
A) III B) IV C) II D) I

18-19 ve 20. sorularda verilen resme göre doğru ifadenin bulunduğu seçeneği işaretleyiniz.

18.



- A) Elle a les cheveux raides et elle porte un collier de perles.  
B) Elle a les cheveux frisés et elle porte un tee-shirt.  
C) Elle a les cheveux longs et elle porte une veste.  
D) Elle a un chapeau et elle porte des lunettes.

19.



Elle est très ----.

- A) sportive B) gentil  
C) souriant D) paresseuse

20.



Il a un nez ----.

- A) ovale B) droite  
C) longue D) épaté

(182) İNGİLİZCE – 2

1-20. sorularda boş bırakılan yere uygun gelen kelime ya da ifadeyi işaretleyiniz.

1. Deniz hasn't seen her father ---- she was born.

- A) ever B) for  
C) since D) never

2. Ali and Zeynep are interested in environment. They have collected all these interesting stones ----.

- A) himself B) themselves  
C) herself D) yourselves

3. In some schools in Turkey, students ---- wear school uniforms nowadays.

- A) mustn't  
B) couldn't  
C) shouldn't  
D) don't have to

4. Amasya is ---- than Ankara.

- A) the most crowded  
B) most crowded  
C) less crowded  
D) crowded

5. Yesterday, ---- I met Ali at the cafe, he was drinking something with his friends.

- A) why B) while  
C) where D) when

6. What would you do if you ---- rich like Richy Rich.

- A) was B) were  
C) did D) are

7. How about ---- in a tent in a forest?

- A) staying B) stay  
C) to stay D) stayed

## 2. OTURUM

8. My mother ----- "Babam ve Oğlum" several times but she will watch it again and again if it is on TV.

- A) will watch
- B) was watching
- C) has watched
- D) have watched

9. When it ----- to rain, I ----- in the garden.

- A) began / was working
- B) begins / am working
- C) began / am working
- D) begins / was working

10. Fatih is a ----- driver. He obeys traffic rules and he drives his car -----.

- A) careful / careful
- B) careful / carefully
- C) carefully / carefully
- D) carefully / careful

11. A blue bird is ----- to bring good luck.

- A) believed      B) welcomed
- C) served        D) watered

12. Alice isn't here. She ----- the dog for a walk.

- A) is taking      B) had taken
- C) has taken     D) takes

13. Stop talking, -----?

- A) have you      B) will you
- C) are you        D) do you

14. Sezen: "It's sunny here."  
Sezen said that it's sunny -----.

- A) now            B) here
- C) then           D) there

15. Ayşe to Tom: "Don't open the window."

Ayşe told Tom ----- the window.

- A) not to open    B) to open
- C) opening        D) opened

16. A: ----- we go to the park?  
B: OK. Let's go!

- A) Would          B) Should
- C) Could          D) Shall

17. The report ----- now.

- A) will be written
- B) has been written
- C) is being written
- D) was being written

18. I would rather ----- . Her room smells awful.

- A) she didn't smoke
- B) she doesn't leave
- C) she has listened to us
- D) she will invite her friends

19. Your salary increases if ----- .

- A) you sleep well
- B) you get promoted
- C) you catch the bus
- D) you lose your wallet

20. I wish ----- . I feel very tired.

- A) you have some more money
- B) she will do her homework
- C) I were on holiday now
- D) he stops smoking

(182) ALMANCA – 2

1 - 16. sorularda boş bırakılan yere uygun gelen kelime ya da ifadeyi işaretleyiniz.

1. ----- sie mir gesagt, dass sie kein Geld hat, ----- ich ihr Geld geben.

- A) Hätte / würde
- B) Werden / haben
- C) Haben / werden
- D) Würde / hätte

2. Das Wetter ist heute ----- warm ----- gestern.

- A) so / so          B) so / wie
- C) wie / wie        D) wie / so

3. Der Lehrer geht in ----- Klasse.

- A) der    B) den    C) das    D) die

4. Das Mädchen spielt mit ----- Katze.

- A) das    B) die    C) der    D) dem

5. A: ----- du krank?

B: Ja, ich habe Halsschmerzen.

- A) Bin    B) Bist    C) Ist    D) Sind

6. Wir sitzen ----- 2 Stunden im Bus.

- A) seit    B) bis    C) um    D) denn

7. Sie können studieren, ----- sie viel lernen.

- A) dass            B) um
- C) denn            D) wenn

8. Der Lehrer hat gesagt, ----- morgen keine Schule ist.

- A) ist                B) dass
- C) weil              D) denn

9. A: Wo sind meine Schlüssel?  
B: Sie hängen an ----- Wand.

- A) der    B) die    C) das    D) dem

10. Wir können Döner ----- Pizza essen.

- A) aber            B) weil
- C) denn            D) oder

11. Ich frühstücke jeden Morgen ----- 7.00 Uhr.

- A) am    B) um    C) im    D) beim

12. Wenn ich Zeit -----, ----- ich mit dir in den Urlaub fahren.

- A) würde / hätte
- B) habe / sein
- C) hätte / würde
- D) werde / habe



## 2. OTURUM

13. A: - - - - spielst du Fußball?  
B: Seit 10 Jahren.

- A) Seit wann B) Bis wann  
C) Mit wem D) Woher

14. Ich lese viel, - - - - gute Noten zu bekommen.

- A) am B) im C) um D) weil

15.



Michael 58 kg Mustafa 55 kg Sibel 50 kg

Michael ist am - - - - .

- A) schwerere B) schwer  
C) schwerer D) schwersten

16. — Ein Auto ist schnell.  
— Ein Flugzeug ist schneller.  
— Eine Rakete ist am - - - - .

- A) schnellsten B) schnell  
C) schnelle D) schnellster

17. Kurallı bir cümle oluşturunuz.

Meine Tante / am Samstag /  
1 2  
aus der Türkei / kommt  
3 4

- A) 1 / 2 / 4 / 3 B) 3 / 2 / 1 / 4  
C) 1 / 4 / 2 / 3 D) 3 / 1 / 2 / 4

18. Aşağıda verilenlerden hangisi sıfattır?

- A) laufen B) groß  
C) kaufen D) Schlüssel

19. Aşağıdaki Almanca sözcüklerin hangisinin Artikel'i yanlış verilmiştir?

- A) die Tante B) das Auto  
C) der Haus D) die Mauer

20. Aşağıdakilerin hangisinde anlam bütünlüğü bozulmaktadır?

- A) Schweden, England, Italien  
B) gehen, schlafen, schreiben  
C) weil, denn, damit  
D) kommt, alt, schön

### (182) FRANSIZCA – 2

1 - 17. sorularda boş bırakılan yere uygun gelen kelime ya da ifadeyi işaretleyiniz.

1. - - - - va toujours à l'école en bus.

- A) Ils B) Vous  
C) Il D) Nous

2. J'ai mis du café dans ma tasse, - - - - je ne l'ai pas bu.

- A) mais B) où  
C) en D) aux

3. - - - - il est malade, il ne sortira pas ce soir.

- A) Combien  
B) Puisque (Puisqu')  
C) Ce que  
D) Comment

4. C'est à Paris - - - - Selim habite depuis deux ans.

- A) donc B) qui  
C) ce que D) que

5. Je vais à mon travail en voiture - - - - en taxi.

- A) donc B) mais  
C) car D) ou

6. Montre-moi l'ordinateur - - - - tu as acheté.

- A) où B) que  
C) qui D) ce que

7. L'été dernier, nous avons passé de très bonnes vacances - - - - Italie - - - - Rome.

- A) en / à B) en / de  
C) au / à D) aux / en

8. - - - - vendredi et dimanche c'est samedi.

- A) Dans B) Sous  
C) Entre D) Sur

9. Ma fille fait des gâteaux - - - - sont délicieux.

- A) qui B) dont  
C) que D) ce qui

10. Metin - - - - huit heures par nuit.

- A) dors B) as dormi  
C) dort D) dormir

11. A: Quand est-ce que tu es arrivé à Ankara ?

B: Je suis arrivé à Ankara - - - - cinq mois.

- A) dans B) en  
C) depuis D) il y a

12. A: Pourquoi va-t-elle chez le médecin?

B: Parce qu'elle a mal à - - - - .

- A) la fête B) le cou  
C) la tête D) le bras droit

13. A: Quand sort le directeur de la banque?

B: Il - - - - sort à sept heures.

- A) des B) de C) y D) en

14. A: D'où viens-tu?

B: Je viens - - - - Italie.

- A) des B) du  
C) de(d') D) la

15. A: Tu déjeunes à la cantine ?  
B: Non, je n' - - - - déjeune pas.  
Je rentre chez moi.

- A) y B) aux  
C) de D) en

16. A: Vous mangez des hamburgers?

B: Non, nous n' - - - - mangeons pas.

- A) de la B) en  
C) y D) au

## 2. OTURUM

### (207) PSİKOLOJİ – 2

17. La bicyclette est - - - - chère que la voiture.

- A) autant B) aussi  
C) moins D) plus

18. “Güher- Süher Pekinel qui jouent du piano ensemble, sont deux sœurs jumelles.” cümlesinde altı çizili sözcüklerin yerine aşağıdaki şahıs zamirlerinden hangisi konulabilir?

- A) Elle B) Elles  
C) Il D) Nous

19.



Verilen resme göre cümlede boş bırakılan kısmı tamamlayan ifadenin bulunduğu seçeneği işaretleyiniz.

Elle fait - - - -.

- A) de la marche  
B) de la peinture  
C) du ski nautique  
D) de la luge

20.



Bu trafik işaretinin anlamı nedir?

- A) Circulation à sens unique  
B) Annonce de feux tricolores  
C) Endroit fréquenté par des enfants  
D) Passage pour piétons

1. Aynı çevrede yetişen tek yumurta ikizlerinin zekaları arasında %88 düzeyinde bir ilişki olduğu, farklı çevrede yetişen tek yumurta ikizlerindeki zeka düzeyleri arasındaki ilişkinin ise %63'e kadar düştüğü gözlemlenmiştir. Farklı çevrede yetişen tek yumurta ikizlerinin zekaları arasındaki fark aşağıdakilerden hangisiyle açıklanır?

- A) Zekada kalıtım ve çevrenin aynı oranda etkisinin olduğu  
B) Zeka üzerinde tek belirleyicinin kalıtım olduğu  
C) Zeka üzerinde çevrenin etkisinin olduğu  
D) Zekada kalıtımın etkisinin yokluğu

2. Aşağıdakilerden hangisinde zekanın payı en azdır?

- A) Bir olayı yorumlamada  
B) Düşüncelerin tutarlılığında  
C) Sayılarla işlem yapabilmeye  
D) Gol attığımızda sevinmede

3. Aşağıdakilerden hangisi normal zekâ düzeyini gösterir?

- A) 0-24 B) 90-110  
C) 121-140 D) 140 ve üzeri

4. Bir kişinin kısa aralıklarla uygulanan zeka testlerinden birbirine çok yakın puan alması yapılan testin hangi özelliğiyle ilgilidir?

- A) Testin yönergesine göre uygulanması  
B) Testin standardizasyonu  
C) Testin güvenilirliği  
D) Testin geçerliliği

5. Özel yeteneklerle ilgili aşağıda verilen yargılardan hangisi yanlıştır?

- A) İnsanlar arasında yetenekler bakımından farklılık yoktur.  
B) Bireyler bir alanda yetenekleri ölçüsünde başarılı olur.  
C) Yetenekler, uygun çevre koşullarında gelişebilir.  
D) Bir alandaki yetenek başarılı işle anlaşılır.

6. Mizaç insanın yaratılışına bağlı doğuştan getirilen fizyolojik kaynaklı tutumlardır, zamanla pek değişmeyen kişilik özellikleridir.

Buna göre aşağıdakilerden hangisi mizaç'a örnektir?

- A) Özü sözü bir olma  
B) Yardımseverlik  
C) Dürüstlük  
D) Tezcanlılık

7. Kişiliğin, belirli uyarımlar karşısında öğrenilmiş, pekiştirilmiş, benimsenmiş davranışlardan meydana geldiğini savunan kişilik kuramı hangisidir?

- A) Öğrenme kuramları  
B) Psikodinamik kuramlar  
C) Temel eğilim kuramları  
D) Varoluşçu kuramlar

8. Aşağıdakilerden hangisi kişiliğin oluşumunda en az etkilidir?

- A) Çevre  
B) Kalıtım  
C) Refleksler  
D) Tesadüfi etkenler

9. Bireyin iç dünyasını dışa yansıtmak amaçlı, kişiye cümle, hikaye tamamlattırılıp, bazı resimlerin gösterilerek yorumlanması şeklinde uygulanan kişilik testi aşağıdakilerden hangisidir?

- A) Projektif testler  
B) Görüşme  
C) Anketler  
D) Değerlendirme ölçekleri

10. Aşağıdakilerden hangisi ruh sağlığı yerinde olan bireylerden beklenen davranış değildir?

- A) Sorunlara gerçekçi çözüm arama  
B) Sorunlarını görmezden gelme  
C) Hedeflerinde gerçekçi olma  
D) Yetersiz kaldığı durumlarda yardım isteme

## 2. OTURUM

11. Havanın yağmurlu olması sebebiyle önceden kararlaştırılan okul gezisinin iptal edilmesi durumunda yaşanan psikolojik durum aşağıdakilerden hangisidir?

- A) Çatışma
- B) Hayal kırıklığı
- C) Dengelenme
- D) Kararsızlık

12. Tatlı yemeyi seven birinin kilo almaktan korkması aşağıdakilerden hangisine örnek oluşturur?

- A) Yaklaşma-yaklaşma çatışmasına
- B) Kaçınma-kaçınma çatışmasına
- C) Yaklaşma-kaçınma çatışmasına
- D) Bastırma savunma mekanizmasına

13. Aşağıdakilerden hangisi stresle başetme yöntemlerinden değildir?

- A) Sakin olmayı öğrenme
- B) Kendisi için zaman ayırma
- C) Zamana karşı yarışa girmeme
- D) Çeşitli konularda aşırı derecede hırslı olma

14. Kardeşini kıskanan bir çocuğun, ayıplanma ve suçluluk duygusundan kurtulmak için kardeşine sürekli sevgi gösterisinde bulunması aşağıda verilen savunma mekanizmalarından hangisi ile açıklanır?

- A) Yüceltme
- B) Mantiğa bürünme
- C) Karşıt tepki geliştirme
- D) Özdeşim kurma

15. Yaşantının bir bölümünün veya tümünün unutulmasıdır. Birey kazandığı beceriler dışında adını, kimliğini, her şeyini unutabilir.

**Özellikleri verilen nevrotik bozukluk aşağıdakilerden hangisidir?**

- A) Bellek yitimi
- B) Çoklu kişilik
- C) Obsesyon
- D) Fobi

16. İlgili ve yeteneklerine uygun iş imkânları verilerek, hastanın iç dünyası rahatlatılıp, yaptığı eserle kişinin üstünlük duyguları geliştirilmesi sağlanır.

**Açıklaması verilen anormal davranışın tedavi yöntemi aşağıdakilerden hangisidir?**

- A) Grup terapisi
- B) Psikodrama
- C) Narkoanaliz
- D) İş terapisi

17. Sosyal çevre tarafından etkilenen bireyin davranışlarını inceleyen bilim dalı aşağıdakilerden hangisidir?

- A) Sosyal psikoloji
- B) Coğrafya
- C) Ekonomi
- D) Tarih

18. Kişinin beğenmediği bir romanı sınıftaki arkadaşlarının romanından övgüyle bahsetmesiyle beğendiğini söylemesi, aşağıdakilerden hangisiyle açıklanabilir?

- A) Sosyal statü
- B) Sosyal etki
- C) Algıda seçicilik
- D) Engellenme

19. Aşağıdakilerden hangisi bireyin "uyuma" davranışını artıran faktörlerden değildir?

- A) Grubu oluşturanların sayısının artması
- B) İlişkilerin yüz yüze olması
- C) Grupta saygın ve uzman kişilerin varlığı
- D) Grupta bir konuda farklı görüşlerin olması

20. Aşağıdakilerden hangisi demokratik liderden beklenen bir davranıştır?

- A) Kararları tek başına alması
- B) Kendini grubun tek hakimi olarak görmesi
- C) Görevini grubun ortak iradesinden alması
- D) Grup üyeleriyle arasındaki ilişkiyi sınırlı tutması

### (208) SOSYOLOJİ – 1

1. Aşağıdakilerden hangisi "resmi" normlardandır?

- A) Gelenekler
- B) Adetler
- C) Görenekler
- D) Hukuk kuralları

2. • Sokakta gezenler  
• Kırmızı ışıkta bekleyenler  
• Otobüs kuyruğunda bekleyenler

**Aynı mekanı paylaşan bu tür insan birliktelikleri aşağıdakilerden hangisine örnektir?**

- A) Toplumsal grup
- B) Toplumsal kurum
- C) Toplumsal yığın
- D) Toplumsal kategori

3. Aşağıdakilerden hangisi birincil toplumsal ilişkilerin özelliklerindedir?

- A) Çıkara dayalı olması
- B) Resmi kurallara dayanması
- C) Duygusal boyutlu olması
- D) Yazılı normlara dayalı olması

4. Aşağıdakilerden hangisi insanların toprağa yerleşme nedenlerinden değildir?

- A) Toplayıcılık ve avcılık alanlarının artması
- B) Üretim araç ve gereçlerinin geliştirilmesi
- C) Hayvanların evcilleştirilmesi
- D) Bitkilerin yetiştirilmesi

5. Köy toplumsal yapısı ile kent toplumsal yapı özellikleri aşağıdakilerden hangisinde yanlış verilmiştir?

		KÖY	KENT
A)	Toplumsal ilişki biçimi	Birincil ilişkiler hakimdir	İkincil ilişkiler hakimdir
B)	Toplumsal kontrol	Hukuk kuralları etkilidir	Gelenekler etkilidir
C)	İş bölümü	Cinsiyete dayalı iş bölümü vardır	Teknik iş bölümü ve uzmanlaşma vardır
D)	Ekonomi	Tarım ve hayvancılığa dayalıdır	Sanayi hizmet ve ticarete dayalıdır

## 2. OTURUM

6. Aşağıdakilerden hangisi hızlı kentleşmenin doğurduğu sorunlardan değildir?

- A) İşsizlik
- B) Gecekondulaşma
- C) Kültürel çözüme
- D) Tüketim ürünlerinin bolluğu

7. Aşağıdakilerden hangisi milleti oluşturan unsurlardan değildir?

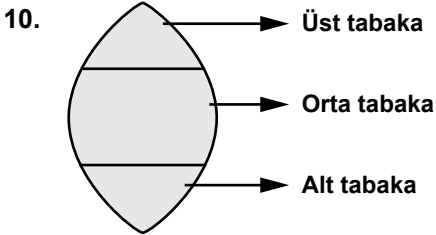
- A) Bencillik
- B) Soy birliği
- C) Din birliği
- D) Ekonomi birliği

8. Aşağıdakilerden hangisi kapalı tabakalaşmanın özelliklerindedir?

- A) Tabakalar arası geçiş serbesttir.
- B) Yapı dikey hareketliliğe açıktır.
- C) Bireylerin yer alacağı tabaka doğumla belirlenir.
- D) Tabaka değiştirmede yasal ve geleneklerden kaynaklanan bir engel yoktur.

9. Aşağıdakilerden hangisi dikey hareketliliğe örnektir?

- A) Bir öğretmenin milletvekili olması
- B) Bakkallık yapan birinin manavlığa başlaması
- C) Ankara valisinin İstanbul'a vali olarak tayin edilmesi
- D) Bir işçinin çalıştığı fabrikadan çıkıp başka bir fabrikada çalışması



Toplumsal tabakalaşma piramidi yukarıdaki gibi olan bir ülkelye ilgili olarak hangi yargıya ulaşabiliriz?

- A) Orta tabakayı oluşturan bireylerin sayısı azalmıştır.
- B) Ekonomik refahı gelişmiş bir toplumdur.
- C) Tabakalar arası gelir dağılımı eşittir.
- D) Üst tabaka ile alt tabaka dengersiz dağılmıştır.

11. Toplumsal olgu, toplumsal ilişkiler sonucunda aynı alanda gerçekleşen birçok toplumsal olayın genel adıdır.

Buna göre, aşağıdakilerden hangisi toplumsal olguya örnek olur?

- A) Malazgirt savaşı
- B) İstanbul'un fethi
- C) Kurtuluş savaşı
- D) Göç

12. Aşağıdakilerden hangisi sosyoloji biliminin ilkelerinden değildir?

- A) Var olan ile değil, olması gereken ile ilgilenme
- B) Bireysel değil, toplumla ilgili sorunlarla ilgilenme
- C) Bilimsel araştırmalarda önyargılı düşüncelerden uzak durmaya çalışma
- D) Bilimsel yöntem ve veri toplama tekniklerini kullanarak bilimsel bilgilere ulaşma

13. Sosyolojinin birey davranışlarıyla ilgilenmeyip, toplumsal sorunlarla ilgilenmesi aşağıdaki bilimlerden hangisiyle farkını dile getirir?

- A) Tarih
- B) Psikoloji
- C) Coğrafya
- D) Siyaset

14. Özlerin birleşerek kentleri oluşturmalarının nedenlerinden biri ortak düşmana karşı korunma ihtiyacındandır. Bu nedenle kentler düşmandan korunmaya elverişli arazilerde kurulmuştur.

Buna göre kentlerin kurulmasında aşağıdakilerden hangisinin etkisi vurgulanmıştır?

- A) Aynı dine inanmalarının
- B) Nüfus fazlalığının
- C) Savunma ihtiyacının
- D) Pazar yerinin

15. Aşağıdakilerden hangisi bilimsel yöntemin temel aşamalarından değildir?

- A) Varsayım
- B) Gözlem
- C) Deneyleme
- D) Önyargı oluşturmak

16. Sosyolog metafizik konularla ilgilenmeyip, yeri ve zamanı belirli olaylardan hareket ederek çalışmasını sürdürür.

Verilen açıklama, bilimsel çalışmalarda uyulması gereken hangi ilkeyi vurgular?

- A) Objektiflik ilkesi
- B) Somutluk ilkesi
- C) Nedensellik ilkesi
- D) Bilmediğini var saymak ilkesi

17. Aşağıdakilerden hangisi bilimin temel niteliklerinden değildir?

- A) Öznel olma
- B) Evrensel olma
- C) Sistemli olma
- D) Genelleyici olma

18. Sınırları belirlenmiş tek bir konuyu, belirli bir planla ve tüm yönleriyle derinlemesine inceleme tekniği, aşağıdakilerden hangisidir?

- A) Anket
- B) Monografi
- C) Görüşme
- D) İstatistik analizler

19. Toplumsal ilişki, birbirinden haberdar olan en az iki kişi arasında belirli bir zaman sürecinde bir amaca yönelik olarak gerçekleşen karşılıklı etkileşim sonucu kurulan bağıdır.

Buna göre aşağıdaki örneklerden hangisinde toplumsal ilişki yoktur?

- A) Öğretmenin ders anlatması
- B) İki arkadaşın konuşması
- C) Bireyin kendi kendisine kızmaması
- D) İki ailenin birbirleriyle sohbet etmesi

20. Doktor Ayşe hanım, Mahmut bey'in eşi, Gizem'in annesi, aynı zamanda çevreyi korumayla ilgili bir vakfın üyesidir.

Bu açıklamada toplumsal statünün hangi özelliği vurgulanmıştır?

- A) Bireylerin birden fazla statüye sahip olması
- B) Birden fazla statünün rolleri zorlaştırdığı
- C) Anahtar statünün önemi
- D) Statülerin zamanla değişimi

## 2. OTURUM

### (401) DİL VE ANLATIM – 1

1. Bakış açısı ( ) seçilen objeye karşı yaklaşım biçimidir ( ) içinde bulunduğumuz birikim kaynakları ( ) böyle bir bakış açısına müsait midir ( )  
**Bu parçada parantez ( ) ile gösterilen yerlere sırasıyla aşağıdaki noktalama işaretlerinden hangileri getirilmelidir?**

- A) ( , ) ( . ) ( , ) ( ? )  
B) ( ; ) ( ! ) ( , ) ( ... )  
C) ( , ) ( . ) ( : ) ( ! )  
D) ( : ) ( . ) ( , ) ( ? )

2. Aşağıdaki cümlelerin hangisinin sonuna farklı bir noktalama işareti konmalıdır?

- A) Ne güzeldir, ne heyecan verir; hangi şey insanı mutlu eder  
B) Bilmiyorum, bu kitabın neden başarısız olduğunu  
C) Bu şehri seven, bu şehre sahip çıkacak var mı  
D) Gökyüzü nasıl olur da farklı bir renk alır

3. Annesi, Kemal'e : "Seninle gurur duyuyorum." dedi.

**Bu cümlede aşağıdaki iletişim unsurlarından hangisi yoktur?**

- A) Alıcı B) Dönüt  
C) Kaynak D) İleti

4. İlk yazılı eserimiz olan Göktürk Yazıtları, Türkçenin gelişim aşamalarının hangisinde verilmiştir?

- A) Altay Çağı  
B) İlk Türkçe Çağı  
C) Eski Türkçe Çağı  
D) Orta Türkçe Çağı

5. Aşağıdakilerin hangisinde Ural-Altay dil ailesine giren diller bir arada verilmiştir?

- A) Çince – Farsça – Portekizce  
B) Türkçe – Moğolca – Mançuca  
C) Tibetçe – İspanyolca – Macarca  
D) Türkçe – Rusça – Akatça

6. Aşağıdaki yargılardan hangisi yanlıştır?

- A) Dil, kültürün kuşaktan kuşağa aktarılmasını sağlar.  
B) Dil, kültürün temel unsurudur.  
C) Kültürdeki her türlü değişim dile yansır.  
D) Dil ve kültürü birbirinden bağımsız olarak değerlendirmek gerekir.

7. Almanca, Arapça, Fransızca, Hintçe gibi diller yapısına göre aşağıdaki dil gruplarının hangisinde yer alır?

- A) Tek heceli  
B) Baştan eklemeli  
C) Sondan eklemeli  
D) Çekimli

8. Aşağıdaki cümlelerde altı çizili sözcüklerden hangisinin büyük ünlü uyumuna uymama nedeni diğerlerinden farklıdır?

- A) İki saattir seni burada bekliyorum.  
B) Akşamki toplantıya yine geç kaldı.  
C) Ateşin önünde durmuş, ısınmaya çalışıyordu.  
D) Sizlere bakarken içim mutluluk doluyor.

9. Türkçenin ses özellikleri dikate alındığında aşağıdaki sözcüklerden hangisinin Türkçe bir sözcük olduğu söylenir?

- A) Program B) Debriyaj  
C) İçerik D) Billur

10. Son geceydi yatağımda

Karım ağlardı sağımda

Körpe yavru kucağımda

Kirpiğini örtüyordu.

**Yukarıdaki dizelerde numaralanmış sözcüklerin hangisinde ses olayı yoktur?**

- A) I. B) II. C) III. D) IV.

11. Kesme işareti (') aşağıdaki cümlelerin hangisinde yanlış kullanılmıştır?"

- A) Anadolu'nun en ücra köşesinde bile İnternet var.  
B) Bu yaz gidip Topkapı Sarayı'nı gezeceğim mutlaka.  
C) Türk Dil Kurumu'nun sitesinden dergiye abone oldum.  
D) Geçen ay okuduğum Derviş ve Ölüm'ü çok beğendim.

12. Aşağıdaki cümlelerin hangisinde büyük harflerin yazımıyla ilgili bir yanlışlık yapılmıştır?

- A) 21 Mart 2014 cuma günü dünyaya gelmiş.  
B) Ahmet Bey, sizi toplantı salonunda bekliyor.  
C) Kızılay Meydanı renkli ışıklarla süslenmişti.  
D) Tamir için bir İngiliz anahtarı şart.

13. Aşağıdaki cümlelerin hangisinde yazım yanlışı yapılmamıştır?

- A) Geçtiğimiz ay belediye otuz işçi alacağını ilanetti.  
B) Yaptığınız herşeyin bir gün karşılığını alacaksınız.  
C) Gerçekten odadaki bütün kitapları okudunuzmu?  
D) Eve girdiğimde sürpriz bir doğum günü partisiyle karşılaştım.

14. Bundan bin yıl sonra bir bilim adamının Türklerle ilgili bir araştırma yapmakla görevlendirildiğini varsayalım. Türklerle ilgili hiçbir bilgisi, ilişkisi olmayan bu araştırmacı herhangi bir yoldan, önce dilimizi iyi öğrenme olanağı bulsa yalnızca Türkçenin söz varlığını inceleyerek ülkemizin 20. yüzyılda hangi koşullar içinde bulunduğunu, bizde hangi kavramların önem taşıdığını ve hangi uluslarla ilişki kurduğumuzu saptayabilir.

**Bu parçada dille ilgili vurgulanan düşünce aşağıdakilerden hangisidir?**

- A) Dil, gelişen canlı bir varlıktır.  
B) Bir toplumun birçok özelliği o toplumun diline yansır.  
C) Dil incelemeleri, çok zaman gerektiren bir uğraştır.  
D) Dil, insanlar arasında iletişimi sağlayan en önemli araçtır.

## 2. OTURUM

15. Dildeki sözcükleri çıkış noktası bakımından inceleyen bilim dalı aşağıdakilerden hangisidir?

- A) Ses bilgisi
- B) Biçim bilgisi
- C) Cümle bilgisi
- D) Köken bilgisi

16. Bir ülkenin sınırları içinde dilin bölgelere, şehirlere ve sınıflara göre değişen söyleyiş özelliğine verilen ad aşağıdakilerden hangisidir?

- A) Ağız
- B) Şive
- C) Lehçe
- D) Yazı dili

17. Kaşgarlı Mahmut'un Türkçenin Arapça kadar zengin bir dil olduğunu ortaya koymak için yazdığı eser aşağıdakilerden hangisidir?

- A) Atabetü'l Hakayık
- B) Kutadgu Bilig
- C) Divan-ı Hikmet
- D) Divanü Lügati't Türk

18. Ciğerlerden gelen havanın gırtlakta bulunan ses tellerinden geçtikten sonra ağız boşluğunun herhangi bir bölgesinde sese dönüşmesine - - - - denir.

**Bu cümlede boş bırakılan yere aşağıdakilerden hangisi getirilmelidir?**

- A) boğumlanma
- B) telaffuz
- C) iletişim
- D) vurgu

19. Aşağıdakilerden hangisi yazım ve noktalama kurallarına uygun bir cümledir?

- A) Direktör: "İyi bir hasılat yapıp ramazanı İzmir'de geçirmek istiyorum." dedi.
- B) Direktör: "İyi bir hasılat yapıp, ramazanı İzmir'de geçirmek istiyorum." dedi.
- C) Direktör, iyi bir hasılat yapıp ramazanı İzmirde geçirmek istiyorum, dedi.
- D) Direktör: "iyi bir hasılat yapıp Ramazan'ı İzmir'de geçirmek istiyorum" dedi.

20. Aşağıdaki cümlelerin hangisinde ünlü düşmesi yoktur?

- A) Bu, aklıma hiç gelmemişti.
- B) Kütüğü yolun kenarına çekti.
- C) Boksörün omzu çıkmış.
- D) Resmi, karşı duvara asacakmış.

### (402) DİL VE ANLATIM – 2

1. Aşağıdakilerin hangisinde "açmak" sözcüğü karşısında verilen anlama uygun kullanılmamıştır?

- A) Bir kuruluşu işler duruma getirmek: Hastaneyi açmak, ilçeye çok faydalı oldu.
- B) Rengin koyuluğunu azaltmak: Bu çocuğun gözünü biraz açmak lazım.
- C) Birbirinden uzaklaştırmak: Masaların arasını açmak, servis yapmayı kolaylaştırır.
- D) Ayırmak, tahsis etmek: Üst kattaki odayı sizin için açtık.

2. Aşağıdaki cümlelerde altı çizili sözcüklerden hangisinin kökü diğerlerinden farklıdır?

- A) Batık gemide hazine arıyorlarmış.
- B) Çevremize karşı duyarlı olmalıyız.
- C) Hazırlık yapmadan yola çıkmazdı.
- D) Geleceğe dair umut taşımalyız.

3. Sana da çok güveniyor, bu yüzden destekleyeceğimi bilmeni istiyorum.

**Bu cümledeki anlatım bozukluğu aşağıdaki değişikliklerin hangisiyle giderilebilir?**

- A) "güveniyor" sözcüğü yerine "inanıyorum" getirilerek
- B) "bu yüzden" cümleden atılarak
- C) "destekleyeceğimi" sözcüğü yerine "destek vereceğimi" getirilerek
- D) "bu yüzden" sözcüğünden sonra "seni" getirilerek

4. Küçük salonun fes renginde kalın ve ağır perdeli geniş çevresinden dışarıya muhteşem ve parlak bir sulu boya levhası gibi görünüyordu. Saf ve mavi bir sema. Çiçekli ağaçlar... Cıvıldağan kuşlar... Uyur gibi sessiz duran deniz...

**Bu parçada kullanılan anlatım türü aşağıdakilerden hangisidir?**

- A) Açıklama
- B) Betimleme
- C) Öyküleme
- D) Tartışma

5. Aşağıdaki cümlelerden hangisi anlamca olumludur?

- A) İnternet'in yaygınlaşmasıyla kitap okunmaz oldu.
- B) Ne dergi ne de gazete giriyor evimize.
- C) İnternet evimizin o tatlı sohbetlerini bırakmadı.
- D) İnternet'i, gerçekten, faydalı kullananlar da yok değil.

6. (I) Anlatımda sözcük fazlalıklarına çok dikkat etmelisiniz. (II) Melih Cevdet Anday, bir şiiri sözcükleri tek tek öterek değerlendirmiş. (III) Herhangi bir sözcük olmadan da dize varlığını sürdürebiliyorsa o sözcüğü gözü kapalı silip atarmış. (IV) Mehmet Fuat aynı kaygıyı her tümcemiz için taşımamızı önerirdi.

**Bu parçadaki numaralı cümlelerin hangisinde koşul söz konusudur?**

- A) I.
- B) II.
- C) III.
- D) IV.

7. Eski kütüphaneler, asırların en büyük beyinlerinin ağırlığını çekemez olmuş, ortalarından bel vermiştir.

**Bu cümleyle anlatılmak istenen aşağıdakilerden hangisidir?**

- A) Kütüphanelerin alamayacağı kadar çok ve önemli eserler verildiği
- B) Bir kütüphanedeki bütün kitapları okumanın çok zor olduğu
- C) Eski kütüphanelerin çok sayıda düşünür yetiştirdiği
- D) Eski kütüphanelerin asırlara meydan okuduğu

## 2. OTURUM

8. Aşağıdaki cümlelerin hangisinin öğelerini ayırmada bir yanlışlık yapılmıştır?

- A) Edebiyat dergileri / eski güçlerini ve etkinliklerini / yitirdi.
- B) Bütün gazeteleri, / dergileri cilt cilt / okuyorum.
- C) O tozlu rafların arasında / çok / vakit geçirdim.
- D) Roman okumanın tadını / başka bir şeyden / alamıyorum.

9. Aşağıdaki cümlelerin hangisinde terim anlamlı sözcük kullanılmıştır?

- A) Bu dönemde şiirde zengin uyak kullanılmıştır.
- B) Her geçen gün daha düzenli çalışıyordu.
- C) Evin perdeleri eşyalarla pek ahenkli değildi.
- D) Davranışlarında ölçülü olmaya dikkat ediyordu.

10. Aşağıdaki dizelerin hangisinde mecazlı anlatım söz konusu değildir?

- A) Açmış aç ağzlarını cılız ağaçlar Dişlerimi diken diken etimde do-laşan
- B) Ve neden sonra zaman Bir iskele olup sıyrıldı takvim yapraklarından
- C) Gönümde güneşler ve aylar battı Yıldızlar dertlerime yeni dertler kattı
- D) Bursa'da bir eski cami avlusu Küçük şadırvanda şakırdayan su

11. Aşağıdaki cümlelerde yer alan ikilemelerden hangisi oluşum bakımından diğerlerinden farklıdır?

- A) Adam bu işlerden doğru dürüst anlamıyordu.
- B) Burada mutlu mesut yaşıyordu adamcağız.
- C) Toplantıda bu konulara az çok değinmişti.
- D) Daima kılık kıyafetimize dikkat etmeliyiz.

12. I. Yosunlu, denizli gece  
II. Bir yeşil kıyıya veda  
III. Kimi ta yanımda deniz  
IV. Kimi bir uzak kıyıda

Yukarıdaki numaralanmış dizelerin hangisinde sıfat tamlaması kullanılmamıştır?

- A) I. B) II. C) III. D) IV.

13. Bir aracın sürücüsü, yolda kendinden başka araç yokmuş gibi davranırsa trafik kazası olur. Bir kişi, konuşurken karşısındakini nasıl etkileyeceğini düşünmezse trafikte olduğu gibi "iletişim kazaları" ortaya çıkar. İletişim kazaları sonunda küsenler, ayrılanlar, gücenenler "yaralıları", kendi içine kapanıp yalnızlığa gömülenlerse "ölüleri" oluşturur. - - - -

Bu parça düşüncenin akışına göre aşağıdakilerden hangisiyle tamamlanamaz?

- A) Bunun için de iletişimde empati yapmak çok önemlidir.
- B) Bunu düşünerek başkalarının hayatına karışmamalıyız.
- C) Bunu göz önünde bulundurarak ağızımızdan çıkacak her sözü iyi tartmalıyız.
- D) Bu yüzden "Boğaz dokuz boğumdur, sekizini yut birini söyle." atasözü doğrultusunda hareket etmeliyiz.

14. Tartışmada zafer, mağlup olanındır. Yenilmek zenginleşmektir. Tartışma hakikati birlikte aramaktır. Hakikat bin bir cepheli, bin bir görünüşlü. Karşınızdaki, görmediğinizi gösterecek size; sizden farklı düşündüğü ölçüde yaratıcı ve öğreticidir.

Bu parçadan aşağıdakilerden hangisi çıkarılamaz?

- A) Tartışmanın kişiye bir şeyler kattığı
- B) Gerçeğin kişilerce farklı algılandığı
- C) Tartışmayı kaybeden kişilerin yeni şeyler öğrendiği
- D) Tartışmada karşıt görüşlü olanların birbirini kırdığı

15. Kendinizi duygu ve heyecan  
I  
yönünden olgun bir insan olarak  
II III  
görmeniz öz güveninizi gösterir.  
IV

Bu cümledeki altı çizili sözcüklerden hangisi yapım eki almamıştır?

- A) I. B) II. C) III. D) IV.

16. Aşağıdaki cümlelerdeki altı çizili sözcüklerden hangisi yapıca farklıdır?

- A) Bu kitabı detaylı bir şekilde değerlendirmelisin.
- B) Bu öyküyü nasıl yazdığını imza gününde anlatacakmış.
- C) Bu küçük kasabada yapabileceğim bir şey kalmadı.
- D) Yıllar sonra aldığı okuma kararını canıgönülden destekliyoruz.

17. Aşağıdakilerin hangisi kurallı bir isim cümlesidir?

- A) Aydın'ın sorumluluğu, adının ayrılmaz bir parçasıdır.
- B) Okumanın tadına varan kişi bir daha okumayı bırakamaz.
- C) Şiiri özümsemek için üzerinde kafa yormalıyız.
- D) Şiirdir bizi farklı diyarlara götüren, bize farklı duygular yaşatan.

18. Ara sıra sevimli çeneleriyle yeşil otları didikliyor, ihtiyar kadının parmağını kemiriyordu.

Aşağıdakilerden hangisi yapıca bu cümleyle özdeştir?

- A) Tavşanların gözü korku ve hayret ile doluydu.
- B) Tramvay, yokuşu homurdanarak çıkmıştı.
- C) Müzik ustası arkadaşımız konuşuyor, bizi aydınlatıyordu.
- D) Okuduğu metindeki atasözü ve deyimleri tespit etmişti.

19. Son zamanlarda çoğalan İnternet yazışmaları insanın kendini saklama güdüsünden kuvvet alıyor.

Bu cümlelerin öznesi aşağıdakilerden hangisidir?

- A) kuvvet
- B) İnternet yazışmaları
- C) çoğalan İnternet yazışmaları
- D) Son zamanlarda çoğalan İnternet yazışmaları

20. Aşağıdaki cümlelerin hangisinde birleşik zamanlı bir fiil kullanılmıştır?

- A) Yurt dışında kaldığım iki yıllık sürede İngilizceyi iyice geliştirdim.
- B) Yağmurlu bir günde sığındığım bu tenha han çok hoşuma gitmişti.
- C) O akşam orada kimseyi görmedim.
- D) O günden sonra yalnızlığımı kitaplarımla paylaşıyorum.

## 2. OTURUM

(408) DİL VE ANLATIM – 8

1. Aşağıda verilen dipnot örneklerinden hangisi doğrudur?

- A) Mahalle Kahvesi, Sait Faik Abasıyanık, YKY Yayınları, İstanbul 2007, 12. baskı, s.69  
B) Sait Faik Abasıyanık, Mahalle Kahvesi, YKY Yayınları, İstanbul 2007, 12. baskı, s.69  
C) Sait Faik Abasıyanık, Mahalle Kahvesi, 12. baskı, İstanbul 2007, YKY Yayınları, s.69  
D) Mahalle Kahvesi, Sait Faik Abasıyanık, 12. baskı, İstanbul 2007, YKY Yayınları, s.69

2. I. Sonuç  
II. Konunun sunuluşu  
III. Sorular ve cevaplar  
IV. Hitap cümlesi  
V. Konferansın amacı

Numaralanmış bölümler aşağıdaki sıralamaların hangisiyle düzenlenirse konferansın planı doğru verilmiş olur?

- A) IV – II – V – III – I  
B) IV – V – II – I – III  
C) V – II – IV – III – I  
D) V – IV – II – I – III

3. Yazar, düşünür ve sanatçıların veya kendi alanında uzman kişilerin bir konuyu açıklamak, tanıtmak, bilgi vermek, öğretmek amacıyla yaptıkları konuşmalara - - - - denir.

Bu parçada boş bırakılan yere aşağıdakilerden hangisi getirilmelidir?

- A) nutuk B) sempozyum  
C) konferans D) açık oturum

4. Aşağıdakilerden hangisi konferans veren kişinin konferans sırasında dikkat etmesi gereken özelliklerden değildir?

- A) Konu açıldıkça konunun farklı alanlarına girmek  
B) Dinleyicilerin bilgi, kültür ve zevk düzeyini dikkate almak  
C) Bayağı ve argo sözleri kullanmaktan kaçınmak  
D) Vücut hareketlerini ve mimiklerini konuşmaya göre ayarlamak

5. Konferansta dil, ağırlıklı olarak hangi işlevde kullanılır?

- A) Heyecana bağlı işlev  
B) Şiirsel işlev  
C) Göndergesel işlev  
D) Alıcıyı harekete geçirme işlevi

6. Açık oturumda aşağıdaki anlatım biçimlerinden hangisi kullanılmaz?

- A) Açıklayıcı B) Öyküleyici  
C) Kanıtlayıcı D) Tartışmacı

7. Aşağıdakilerden hangisi açık oturum başkanının görevlerinden değildir?

- A) Konuşmacıların sözünü keserek onları yönlendirmek  
B) Oturum öncesinde plan yapmak  
C) Oturum sonunda ortaya çıkan düşünceleri özetleyerek genel bir değerlendirme yapmak  
D) Konuyu belirtip konuşmacıları tanıtmak

8. Aşağıdakilerden hangisi açık oturumun özelliklerinden biridir?

- A) Konuşmacı sayısında belirli bir sınır yoktur.  
B) Amacı bir sorunu çözmek ve tartışma sonunda ortak bir karara varmaktır.  
C) Ciddi bir hava içinde gerçekleştirilir.  
D) Ortaya atılan düşüncelerin bilimsel geçerliği olmalıdır.

9. • Düzenleme kurulu bulunur.

- Birkaç gün sürebilir.  
• Sonunda bir bildiri yayımlanır.  
• Oturumu yönetmek için bir başkan bulunur.

Bu özellikler aşağıdaki tartışma türlerinden hangisine aittir?

- A) Forum B) Konferans  
C) Sempozyum D) Açık oturum

10. Forumu diğer tartışma türlerinden ayıran en belirgin özellik aşağıdakilerden hangisidir?

- A) Bilimsel olması  
B) Bir başkan tarafından yönetilmesi  
C) Sunum araçlarının kullanılması  
D) Dinleyicilerin tartışmaya aktif olarak katılması

11. Aşağıdakilerden hangisi açık oturum, sempozyum, forum ve münazara anlatım türlerinin ortak bir özelliği değildir?

- A) Dilin göndergesel işlevde kullanılması  
B) Bir başkan tarafından yönetilmesi  
C) Bir dinleyici topluluğunun bulunması  
D) İki farklı tartışma grubunun bulunması

12. Aşağıdakilerden hangisi münazarada hakem kurulunun konuşmaları değerlendirme esaslarından değildir?

- A) Konuşmacıların konuşma yeteneği  
B) Konuşmacıların kılık kıyafeti  
C) Beden dilini kullanıp kullanmaması  
D) Savunmada inandırıcı olmaları

13. Münazarada tartışan kişiler aşağıdakilerden hangisini yapmamalıdır?

- A) Süslü söyleyişlere değil, sağlam fikirlere önem vermek  
B) Daha önceden söylenmiş bilgileri ve örnekleri tekrarlamamak  
C) Kişisel üstünlüğünü kanıtlamak  
D) Düşünceleri anlaşılır, açık ve kısa söylemek

14. Aşağıdaki cümlelerin hangisinde gereksiz sözcük kullanıldığı için duruluk bozulmuştur?

- A) Hırs ve öfkesine yenik düşen insanlar asla başarılı olamazlar.  
B) Bunca olumsuz şart ve koşula rağmen amacımıza ulaştık.  
C) Yağmurun altında onunla hiç konuşmadan yavaş yavaş yürüdük.  
D) İnceleyeceğim evrakı yorgun, isteksiz bir şekilde elime aldım.



## 2. OTURUM

15. Aşağıda sempozyumla ilgili verilen bilgilerden hangisi yanlıştır?

- A) Sempozyumlar fizik, kimya, biyoloji, tıp gibi bilim alanlarında yapılabilir.
- B) Önceden belirlenmiş bir konuşmacı grubu bulunur.
- C) Belirli bir konu konuşmacılar tarafından farklı yönleriyle açıklanmaya çalışılır.
- D) Dinleyiciler sempozyum yapılan konuda uzmanlaşmış kişilerdir.

16. (I) Forum bilimsel ve akademik konularda düzenlenir. (II) Aktif bir katılımcı konumunda bulunan dinleyiciler farklı kültür, anlayış ve yaş gruplarından oluşur. (III) Bu nedenle hem katılan uzmanları hem de katılımcıları yöneteceği için forum başkanının görevi diğer sözlü anlatım türlerindeki başkanlara göre daha zordur. (IV) Forumda amaç belli kararlara varmak değil konuyu değişik anlayışlarla farklı boyutlarıyla ortaya koymaktır.

**Bu parçada numaralanmış cümlelerin hangisinde yanlış bilgi verilmiştir?**

- A) I. B) II. C) III. D) IV.

17. Aşağıdakilerden hangisi münazaranın öğrencilere kazandırdığı özelliklerden biri değildir?

- A) Karşı fikre saygı duymasını sağlamak
- B) Ezber gücünü artırmak
- C) Toplum önünde soğukkanlı konuşma alışkanlığı kazandırmak
- D) Araştırma, inceleme yöntemlerini öğrenmelerini sağlamak

18. • Sayfa içinde geçen herhangi bir düşünce veya bilgi ile ilgili olarak sayfanın altına konan açıklama
- Belli bir konu, yer veya dönemle ilgili yayınları kapsayan veya en iyilerini seçen eser listesi
  - Bir kitabın veya derginin kişi, konu, yer adı vb. bakımdan içindekileri yer numarasıyla belirten ve eserin arkasında yer alan alfabetik liste

**Aşağıdaki kavramlardan hangisi bu tanımlardan biriyle eşleştirilemez?**

- A) Kaynakça
- B) Dipnot
- C) Dokümantasyon
- D) İndeks

19. (I) Bilimsel yazılarla makalelerin benzerlikleri olduğu gibi farklılıkları da vardır. (II) Bilimsel yazılar makaleye göre daha geniş bir araştırmaya dayanır. (III) Bilimsel yazıların okuyucusunun o konuda belli bir birikime sahip olması gerekir. (IV) Her iki türde de amaç bilgi vermek olduğu için sözcükler gerçek anlamlarıyla kullanılır. (V) Ama bilimsel yazılarda anlatılanların kanıtlanması gerekmez.

**Bu parçada numaralanmış cümlelerin hangisinde bilgi yanlışı vardır?**

- A) II. B) III. C) IV. D) V.

20. Bilimsel yazılarla ilgili aşağıda verilen bilgilerden hangisi yanlıştır?

- A) Dil alıcısı harekete geçirme işlevinde kullanılır.
- B) Dipnot, kaynakça ve indeks kullanılır.
- C) Bilimsel buluşları iletmek için yazılır.
- D) Konferans raporları, toplantı özetleri bilimsel yazı türleridir.

### (411) TÜRK EDEBİYATI – 1

1. Tarikata yeni girenlere tarikatın edep ve erkânını öğretmek, dervişlere yol göstermek için söylenen şiirler aşağıdakilerden hangisidir?

- A) Nefes B) Hikmet
- C) Nutuk D) Devriye

2. Görmek ister isen cihanda rahat Çalış, durma kazan, etme sefahat Damlayı damlayı göl olur elbet Derd ü belâ bile azdan az olur

**Bu dizeler, konusuna göre aşağıdaki şiir türlerinden hangisine örnektir?**

- A) Epik B) Lirik
- C) Satirik D) Didaktik

3. Ahmet Dayı, kendi memleketinden Kars'a göçmüştü. Merkeze yakın bir köyü beğenmiş ve buraya yerleşmeye karar vermişti. Köy bir dağın eteğindeydi. Ahmet Dayı köyün içinde ev yapacak bir yer bulamayınca evini köyün üst tarafına, dağın tepesine yakın bir yere yapmıştı. Ancak yükseklere çıkıldıkça sıcaklık düştüğü, yükseklerde sert rüzgârlar daha fazla olduğu için Ahmet Dayı burada sık sık hastalanıyordu.

**Bu edebî metin oluşturulurken hangi bilimden yararlanılmıştır?**

- A) Tıp B) Tarih
- C) Felsefe D) Coğrafya

4. Sanatta temel olan yeni ve kişisel bir şey söylemektir. Büyük sanatçı bununla belli olur.

**Bu parçada büyük sanatçıyı diğer sanatçılardan ayıran hangi özellik vurgulanmaktadır?**

- A) Kişisel duyguları fazlaca dile getirmesi
- B) Farklı ve özgün şeyler söylemesi
- C) Çıkar gözetmeksizin çalışması
- D) Çok sayıda eser vermesi

## 2. OTURUM

5. Edebî eserlerin malzemesi aşağıdakilerden hangisidir?

- A) Ahenk B) Dil  
C) Gerçeklik D) Estetik

6. Aşağıdakilerden hangisi İslami Devir Türk Edebiyatı içinde değerlendirilmez?

- A) Tanzimat edebiyatı  
B) Halk edebiyatı  
C) Klasik edebiyat  
D) Tasavvuf edebiyatı

7. Oklar uçup gider şahanlar gibi  
Merd de aşip gider aslanlar gibi  
Kılıçlar oynasır ceylanlar gibi  
Kesilir ne başlar meydanlar içinde

**Bu dizelerde işlenen tema aşağıdakilerden hangisidir?**

- A) Aşk  
B) Kahramanlık  
C) Doğa sevgisi  
D) Vatan hasreti

8. Edebî metinler, bir yazar tarafından ve belli bir zaman diliminde vücuda getirilir. Yazar ve tarihî koşullar zamanla ortadan kaybolursa da eser varlığını sürdürür. Bu yüzden eserlerin okunma ve yorumlanma süreci oluştuğu tarihî koşullardan bağımsız ele alınamaz.

**Bu parçada edebî eserlerin hangi yönü vurgulanmaktadır?**

- A) Edebî eserler tarihe kaynaklık etmektedir.  
B) Edebî eserler yazıldığı dönemin zihniyetine göre değerlendirilmelidir.  
C) Edebî eserler her okuyucuda farklı duygu ve düşünce uyandırır.  
D) Edebî eserler insanların duygu, düşünce ve hayal dünyasını geliştirir.

9. Ahmet Kutsi Tecer (1901-1967) şiirlerinde hece ölçüsü ve sade bir dil kullanmıştır. Aşk, ölüm, kahramanlık gibi konuları işleyen sanatçı, halk edebiyatına oldukça önem vermiştir.

**Bu örnekte olduğu gibi bir sanatçının kendinden önceki edebiyat anlayışından etkilenmesi aşağıdaki kavramlardan hangisiyle adlandırılır?**

- A) Gelenek B) Gerçeklik  
C) Ahenk D) Zihniyet

10. Aşağıdakilerden hangisi edebî eserlerin özelliklerinden sayılamaz?

- A) Temel konusu insandır.  
B) İçinde doğduğu dönemin çeşitli özelliklerini yansıtır.  
C) Mutlaka bir şeyler öğretmek amacıyla yazılır.  
D) Değeri, sanatçının ve okuyucunun estetik anlayışına bağlıdır.

11. Aşağıdakilerden hangisi âşık edebiyatının özelliklerinden değildir?

- A) Nazım birimi dördlüktür.  
B) Genellikle aruz ölçüsü kullanılmıştır.  
C) Ürünler sade bir dille ortaya konmuştur.  
D) Aşk, ayrılık, kahramanlık, doğa güzellikleri gibi konular işlenmiştir.

12. I. Hazların âleminde yumulmuş  
kirpiklerin  
II. Biliyorum gölgede senin  
uyduğunu  
III. Yüzünde bir tebessüm bu ağır  
ögle sonu  
IV. Bir deniz manzarası gibi kuytu  
ve serin

**Bu dizeler sarma uyak şeklinde dizildiğinde doğru sıralama aşağıdakilerden hangisi olur?**

- A) II – IV – I – III  
B) III – IV – II – I  
C) I – II – IV – III  
D) II – I – III – IV

13. Aşağıdaki dizelerin hangisinde redif kullanılmamıştır?

- A) Ne söz ister ne saz  
Güzelde vefa olmaz  
B) O yana bu yana bakma  
Beni ateşlere atma  
C) Kaybolmuş sevdiklerimiz aşkına  
Allah aşkına, gök, deniz aşkına  
D) Bütün dağların başı yukarıda  
İnsanların aklı başında

14. Aşağıdakilerden hangisi edebî eser sayılamaz?

- A) Çalığışu romanı  
B) Üç Şehitler Destanı  
C) Rüzgârlı Pazar hikâyesi  
D) TDK Yazım Kılavuzu

15. Satirik şiirin halk edebiyatındaki karşılığı aşağıdakilerden hangisidir?

- A) İdil B) Eglog  
C) Hiciv D) Taşlama

16. Aşağıdaki seçeneklerin hangisinde halk şiiri nazım biçimleri bir arada verilmiştir?

- A) Koşma – Kaside – Türkü  
B) Semaî – Mânî – Destan  
C) Şarkı – Semaî – Ninni  
D) Rubaî – Varsağı – Mesnevi

17. Böyle bağlar  
Yâr başın böyle bağlar  
Gül açmaz bülbül ötmez  
Yıkılsın böyle bağlar

**Bu dizeler aşağıdaki mânî türlerinden hangisine örnektir?**

- A) Düz B) Yedekli  
C) Kesik D) Deyiş

18. Hâtırına düştü eski bir sanat  
Bâr'da ber'de bir'de bar'da ma'nâ  
var  
İşitmeyenler der bu nasıl hikmet  
Târ'da ter'de tîr'de tor'da ma'nâ  
var

**Bu dizelerle ilgili aşağıdakilerden hangisi söylenemez?**

- A) Hem sözcük hem ek hâlinde redif kullanılmıştır.  
B) 6+5'li hece ölçüsü kullanılmıştır.  
C) Uyak düzeni abab şeklindedir.  
D) Zengin uyak kullanılmıştır.

## 2. OTURUM

19. Kalbimse bu hengâmede kuşlar  
gibi ürkek,  
Kalbim heyecandan dedi: "Artık  
dönelim, çek!"

**Bu dizelerde aşağıdaki söz sanat-  
larından hangileri kullanılmıştır?**

- A) Benzetme – İntak  
B) Abartma – Cinas  
C) İstiare – Tevriye  
D) Hüsnitalil – Tenasüp

20. Bizim sahraların başı  
Pâre pâre duman şimdi  
Kalmadı hiç zaman şimdi  
Ayrılması yaman şimdi

**Bu dörtlükteki uyak çeşidi aşağı-  
dakilerden hangisidir?**

- A) Yarım B) Tam  
C) Zengin D) Cinas

### (412) TÜRK EDEBİYATI – 2

1. Aşağıdakilerden hangisi doğal  
ve yapma destanların ortak  
yönlerinden değildir?

- A) Toplumu etkileyen olayları ele  
alması  
B) Manzum şekilde olmaları  
C) Abartılara yer verilmesi  
D) Anonim olmaları

2. Bir varmış, bir yokmuş; Allah'ın  
kulu çokmuş. Develer tellal iken,  
pireler berber iken ben anamın  
beşiğini tıngır mıngır salları iken...

**Bu tekerlemede olduğu gibi  
anlatımda iç uyaklar bulunma-  
sına verilen ad aşağıdakilerden  
hangisidir?**

- A) Mecaz B) Redif  
C) Seci D) Asonans

3. Divan edebiyatında olaya da-  
yalı, beyitler hâlinde yazılan tür  
aşağıdakilerden hangisidir?

- A) Gazel B) Kaside  
C) Mesnevi D) Terkibibent

4. Öykü türünün ilk örneği, İtalyan  
yazar - - - - tarafından yazılan  
"Dekameron" adlı eserdir.

**Bu cümlede boş bırakılan yere  
aşağıdakilerden hangisi getiril-  
melidir?**

- A) Boccaccio B) A. Çehov  
C) O. Hengry D) Maupassant

5. Aşağıdakilerden hangisi an-  
latmaya ve göstermeye bağlı  
eserlerin ortak yönlerinden  
değildir?

- A) Olay çevresinde gelişmeleri  
B) İnsan merkezli konuların ele  
alınması  
C) Kişi, yer ve zaman gibi unsur-  
ların olması  
D) Sahnede gösterilmek amacıyla  
oluşturulmaları

6. Aşağıdaki destan – millet eşleş-  
tirmelerinden hangisi yanlıştır?

- A) İlyada – Yunan  
B) Kalevela – Fin  
C) Şehname – Moğol  
D) Türeyiş – Türk

7. Hayatın ve tutacağıın yol hakkın-  
da kararsızlığa düşüp de bir ışık  
aradığın zaman, fikrini soracağın  
kişiyi iyi seç. Düşün ki isabetsiz  
bir fikirden hareket ederek ver-  
diğin karardan bütün bir ömür  
boyunca pişmanlık duymak müm-  
kündür. Fakat isabetli bir fikirden  
aldığın ışık da ömrünce yolunu  
aydınlatır.

**Bu parçanın ana düşüncesi  
aşağıdakilerden hangisidir?**

- A) Akıl danışılacak kişiler iyi seçil-  
melidir.  
B) Her insanın hayatında pişman-  
lıklar vardır.  
C) Aydınlık bir gelecek için dü-  
zenli çalışmak gerekir.  
D) Bireysel alınan kararlar çoğu  
zaman yanlıtıdır.

8. Aşağıdaki yazarlardan hangisi  
öykü türünde eser vermemiştir?

- A) Kemal Tahir  
B) Ömer Seyfettin  
C) Yahya Kemal Beyatlı  
D) Hüseyin Rahmi Gürpınar

9. Olayın geçtiği ortam ve kişile-  
rin tanıtıldığı, yer ve zamanın  
belirtildiği öykü bölümü aşağı-  
dakilerden hangisidir?

- A) Serim B) Düşüm  
C) Çözüm D) Gelişme

10. Meydanı çeviren parmaklığın öte  
tarafındaki caddede bir sıra küçük  
dolmuş, deniz kenarında iki açık  
yaz tramvayı vardı. Geniş kırmızı  
şeritli pantolonu, parlak kılıcıyla o  
gün ilk defa topçu zabiti üniforma-  
sı içinde gördüğüm babamla el ele  
meydanın ortasında durmuştuk.

**Bu parçanın anlatımında aşağı-  
dakilerden hangisi ağır bas-  
maktadır?**

- A) Karşılaştırma  
B) Örneklendirme  
C) Tartışma  
D) Betimleme

11. Edebiyatımızda en güzel ör-  
neklerini Mehmet Akif Ersoy ve  
Tevfik Fikret'in verdiği nazım  
şeklinde yazılmış hikâyeler  
aşağıdakilerden hangisidir?

- A) Manzum hikâye  
B) Durum hikâyesi  
C) Modern hikâye  
D) Halk hikâyesi

12. Ahmet Celâl, I. Dünya Savaşı'na  
katılmış ve bir kolunu savaşta  
kaybetmiştir. İstanbul'un İngilizler  
tarafından işgal edilmesi üzerine  
Emir Eri Mehmet Ali onu köyüne  
davet eder. Daveti kabul eden  
Ahmet Celâl, Porsuk Çayı'nın kı-  
yısındaki köye gider.

**Bu parçada bir bölümü özetle-  
nen eser aşağıdakilerden han-  
gisidir?**

- A) Yaban  
B) Çalığışu  
C) Yüksek Ökçeler  
D) Sinekli Bakkal

13. Konusunu müzik eşliğinde ha-  
reketlerle anlatan sözsüz tiyatro  
türü aşağıdakilerden hangisidir?

- A) Vodvil B) Bale  
C) Opera D) Operet

## 2. OTURUM

14. Aşağıdakilerin hangisinde öğretici metinler bir arada verilmiştir?

- A) Makale – Deneme – Tiyatro
- B) Röportaj – Eleştiri – Fıkra
- C) Sohbet – Anı – Hikâye
- D) Roman – Mektup – Gezi yazısı

15. Aşağıdakilerden hangisi anlatmaya bağlı edebî metinlere örnek olamaz?

- A) Roman
- B) Hikâye
- C) Destan
- D) Tiyatro

16. • Masal  
• Destan  
• Mesnevi  
• Hikâye

Bu türlerin ortak yönü aşağıdakilerden hangisidir?

- A) Manzum olmaları
- B) Mensur olmaları
- C) Anonim olmaları
- D) Olaya dayalı olmaları

17. Gölge oyununda Karagöz'le Hacivat'ın arasında geçen konuşmaların yer aldığı bölümdür. Seyircilerin en çok sevdiği bu bölümde yanlış anlamalara dayalı komik diyaloglar yer alır. Bu bölümün asıl oyunla ilgisi yoktur.

Bu parçada tanıtılan Karagöz oyununun bölümü aşağıdakilerden hangisidir?

- A) Giriş
- B) Muhavere
- C) Fasil
- D) Bitiş

18. Aşağıdakilerin hangisinde bilgi yanlış vardır?

- A) Rol gereği yapılan yüz hareketlerine mimik denir.
- B) Tiyatro eserlerindeki bölümlere perde denir.
- C) Tiyatrolarda oyuncuların unuttuğu sözleri hatırlatan kişiye replik adı verilir.
- D) Yabancı bir esere millî özellikler katarak uyarlamaya adaptasyon adı verilir.

19. Yahya Kemal, 1912 yılında dokuz sene kaldığı Paris'ten zengin bir kültüre ve tarih şuuruna sahip olarak İstanbul'a dönmüştür. 1913 yılından itibaren çeşitli liseler ile İstanbul Üniversitesinde tarih ve edebiyat dersleri vermiş, çeşitli dergilerde şiir ve makaleleri yayımlanmıştır.

Bu parça aşağıdaki metin türlerinden hangisine örnektir?

- A) Makale
- B) Biyografi
- C) Eleştiri
- D) Deneme

20. Sabahın bu saatlerinde, okulun insansız bahçesindeki erik ağacının altında melül, mahzun duran boş bankın önüne çektim emektarı. Çocuklar gelmiş miydi acaba? Motoru durdurdum, arabadan çıkarken çaldı telefonum.

Bu parçada aşağıdaki bakış açılarından hangisi kullanılmıştır?

- A) İlahi
- B) Kahraman
- C) Gözlemci
- D) Figüran

### (418) TÜRK EDEBİYATI – 8

1. Gelse de en acı sözler dilime,  
Uçacak sanırım birkaç kelime...  
Bir alev hâlinde düştün elime,  
Hani, ey gözyaşım akmayacaktın?

Bu dörtlüğe hâkim olan duygu aşağıdakilerden hangisidir?

- A) Aşk
- B) Hüzün
- C) Umud
- D) Sevgi

2. Bir gizli değneğim olsa;  
Vurduğum yerde güller açılrsa,  
Uçan güller.  
Bir sihirli değneğim olsa;  
Vursam bir nar ağacına,  
Narlar çatlasa kahkahadan...

Bu şiir aşağıdaki şiir anlayışlarından hangisine örnek gösterilebilir?

- A) Öz şiir
- B) Serbest nazım ve toplumcu şiir
- C) Millî Edebiyat zevk ve anlayışını sürdüren şiir
- D) Garip hareketi

3. Aşağıdakilerden hangisi saf şiir akımının temsilcilerindendir?

- A) Ahmet Haşim
- B) Hasan İzzettin Dinamo
- C) Ahmet Arif
- D) Enis Behiç Koryürek

4. Aşağıdakilerden hangisi Garip şiirinin özelliklerinden değildir?

- A) Şakaya ve nükteye çok yer verir; sahte değerlerle, samimiyetsizlikle, aşırı duyarlılıkla alay eder.
- B) Şiirlerde serbest ölçü kullanılmış, hece ölçüsüne yer verilmiştir.
- C) Silik yaşamak, büyük konulardan kaçmak, küçük tasa ve sevinçler şiirin başlıca temaları hâline getirilmiştir.
- D) Redife yer verilmemiş, ahenk kafiyeyle sağlanmıştır.

5. Aşağıdakilerden hangisi Garip şiirinin temsilcilerinden değildir?

- A) Orhan Veli Kanık
- B) Kemalettin Kamu
- C) Melih Cevdet Anday
- D) Oktay Rifat Horozcu

6. Günümüze ulaşan çizgisinde yeni ve tek kalabilen bir şairdir. Şiirinde mağara devri adamlarından modern çağın insanına kadar insanoğlunun iç ve dış dünyasını, yurt ve dünya insanını işledi. Kendine özgü hayal ve semboller kullandı. "Havaya Çizilen Dünya, Çocuk ve Allah" önemli eserlerindedir.

Bu parçada tanıtılan sanatçı aşağıdakilerden hangisidir?

- A) Fazıl Hüsnü Dağlarca
- B) Asaf Halet Çelebi
- C) Behçet Necatigil
- D) Necati Cumalı

7. I. Şiirde imge çok önemsenmiştir.  
II. Günlük konuşma diline yer verilmemiştir.  
III. Söz sanatlarından uzak durulmuştur.  
IV. Dadaizm ve sürrealizm akımlarından etkilenilmiştir.

Yukarıda numaralanmış ifadelerden hangisi İkinci Yeni'nin özelliklerinden biri değildir?

- A) I.
- B) II.
- C) III.
- D) IV.

## 2. OTURUM

8. İkinci Yeni'ye has dil ve söylem özelliklerini kullanarak İslam dinini esas alan konulara yöneldi. Onun şiiri İslam'ın geleneksel metinlerinde görülen çevre ilişkisinin üzerine kurulmuştur. İslam mitolojisini kucaklayan sanatçının şiirinin sağlam bir metafizik zemini vardır. "Çocukluğum, Mona Rosa" önemli şiirlerinden bazılarıdır.

**Bu parçada tanıtılan sanatçı aşağıdakilerden hangisidir?**

- A) Turgut Uyar
- B) Ece Ayhan
- C) Sezai Karakoç
- D) Ülkü Tamer

9. Aşağıdakilerden hangisi İkinci Yeni sonrası toplumcu şiirin sanatçılarından değildir?

- A) İsmet Özel
- B) Mehmet Akif Ersoy
- C) Ataul Behramoğlu
- D) Süreyya Berfe

10. Yedi yaşındayken geçirdiği çiçek hastalığı yüzünden gözlerini kaybetti. Kalan yetmiş iki yıllık hayatını kendi iç aydınlığını çoğaltarak geçirdi. Yer yer yerel sözcüklerle süslediği, sade bir Türkçe ile yazdığı şiirlerini geleneksel âşık şiiri nazım şekillerinden koşma, semai, destan şeklinde söyledi. Şiirlerinin kaynağını Yunuslarda, Mevlanalarda, Karacaoğlanlarda buldu.

**Bu parçada tanıtılan sanatçı aşağıdakilerden hangisidir?**

- A) Âşık Veysel
- B) Şeref Taşlıova
- C) Murat Çobanoğlu
- D) Mahzuni Şerif

11. Suya gider al yazması başında İsmi kadın kendi on beş yaşında Dünyayı terk etti pek genç yaşında Dayanmalı Hakk'ın emri böyledir

**Bu dörtlükte işlenen tema aşağıdakilerden hangisidir?**

- A) Özlem
- B) Gurbet
- C) Ölüm
- D) Aşk

12. Aşağıdakilerden hangisi klasik hikâyenin bölümlerinden değildir?

- A) Dügüm
- B) Mekân
- C) Çözüm
- D) Serim

13. Sanat hayatına Maupassant tarzı hikâyeye başladı. Net bir şekilde giriş, gelişme, sonuç bölümlerinin bulunmadığı hikâyeler yazdı. Sonraki dönemlerde durum hikâyesi yazdı. Şiirsel anlatım tarzını sürdürdü. Denizcileri, balıkçıları, avare insanları anlattığı hikâyelerinin kahramanları çoğunlukla kendisidir. "Havada Bulut, Semaver, Sarnıç" önemli eserlerindendir.

**Bu parçada tanıtılan sanatçı aşağıdakilerden hangisidir?**

- A) Sait Faik Abasıyanık
- B) Memduh Şevket Esendal
- C) Ömer Seyfettin
- D) Yakup Kadri Karaosmanoğlu

14. Aşağıdaki sanatçılardan hangisi hikâye türünde eser vermemiştir?

- A) Ömer Seyfettin
- B) Refik Halit Karay
- C) Yahya Kemal Beyatlı
- D) Sait Faik Abasıyanık

15. Aşağıdakilerden hangisi Orhan Pamuk'un eserlerinden biri değildir?

- A) Kara Kitap
- B) Cevdet Bey ve Oğulları
- C) Yeni Hayat
- D) Kaplumbağalar

16. Oğuz Atay'ın bu romanı; ele aldığı konu, konuyu işleyiş tarzı ve iç monolog, bilinç akışı, alıntı gibi yeni anlatım tekniklerini kullanması bakımından dikkate değerdir. Sanatçı, romanında birtakım dinsel ve mitolojik unsurlardan yararlanarak yerleşik düzenin değer yargılarıyla, zevkleriyle, yaşama biçimleriyle uzlaşamayan, topluma yabancılaşmış insanların yaşamını anlatır.

**Bu parçada tanıtılan eser aşağıdakilerden hangisidir?**

- A) Bir Bilim Adamının Romanı
- B) Yorgun Savaşçı
- C) Tutunamayanlar
- D) Küçük Ağa

17. Güzel yüzün görülmezdi  
Bu aşk bende dirilmezdi  
Güle kıymet verilmezdi  
Âşık ve maşuk olmasa

**Bu dizelerle ilgili aşağıdakilerden hangisini söylemek yanlış olur?**

- A) 8'li hece ölçüsüyle yazılmıştır.
- B) Sevgiliye duyulan aşktan söz edilmiştir.
- C) Halk şiirinin etkisiyle yazılmıştır.
- D) Çapraz uyak düzeniyle söylenmiştir.

18. İstanbul'un güzelliklerini anlatan "Bir Başka Tepeden" adlı şiir aşağıdaki sanatçılardan hangisine aittir?

- A) Ercüment Behzat Lav
- B) Orhan Veli Kanık
- C) Necip Fazıl Kısakürek
- D) Yahya Kemal Beyatlı

19. SEYFİ BABA

Geçen akşam geldim. Dediler:

-Seyfi Baba

Hastalanmış yatıyormuş.

-Nesi varmış acaba?

**Yukarıda bir bölümü verilen manzum hikâye aşağıdaki sanatçılardan hangisine aittir?**

- A) Necip Fazıl Kısakürek
- B) Mehmet Akif Ersoy
- C) Kemalettin Kamu
- D) Behçet Necatigil

## 2. OTURUM

20. Aşağıdakilerin hangisinde sanatçı – eser eşleştirmesi doğru yapılmıştır?

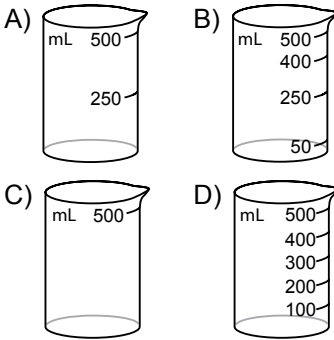
- A) Cahit Külebi - Birdenbire  
B) Necip Fazıl Kısakürek - Kaldırımlar  
C) Ahmet Haşim – Safahat  
D) Ahmet Muhip Dıranas – Karadut

### (421) FİZİK – 1

1. Aşağıdakilerden hangisi vektörel büyüklüktür?

- A) Suyun özkütlesi  $1 \text{ g/cm}^3$ 'tür.  
B) Emel masayı sola doğru  $20 \text{ N}$ 'luk kuvvet ile çekiyor.  
C) Laboratuvardaki cam bardağın hacmi  $250 \text{ cm}^3$ 'tür.  
D) Sınıftaki en zayıf öğrenci  $34 \text{ kg}$ 'dır.

2. Emel mutfakta yapacağı kurabiye için  $200 \text{ mL}$  sıvı yağ kullanmalıdır. Buna göre aşağıdaki hangi cam kabı kullanırsa  $200 \text{ mL}$  yağı en doğru ölçer?



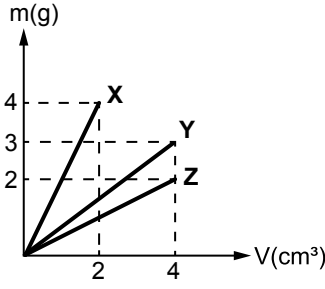
3. 3 ton toz şeker kaç miligram (mg) toz şeker eder?

- A)  $3 \cdot 10^9$  B)  $3 \cdot 10^6$   
C)  $3 \cdot 10^{12}$  D)  $3 \cdot 10^3$

4. Bir kenarı  $4 \text{ cm}$  olan küp şeklindeki K cisminin kütlesi  $6,4 \text{ gram}$  olduğuna göre K'nın özkütlesi kaç  $\text{g/cm}^3$ 'tür?

- A) 4 B) 0,3 C) 0,1 D) 2

5. X, Y, Z cisimlerinin kütle - hacim grafiği şekilde gibidir.



Buna göre cisimlerin özkütlelerinin büyüklük sıralaması aşağıdakilerden hangisidir?

- A)  $d_x > d_y = d_z$   
B)  $d_x > d_y > d_z$   
C)  $d_y = d_z > d_x$   
D)  $d_z > d_y > d_x$

6. Bir cismin dayanıklılığı kesit alanı/hacim oranı ile hesaplandığına göre yarıçapı  $3 \text{ cm}$ , yüksekliği  $12 \text{ cm}$  olan metal silindir kabın dayanıklılığı aşağıdakilerden hangisidir?  
( $\pi = 3$  alınacak)

- A)  $\frac{1}{36}$  B)  $\frac{1}{27}$   
C)  $\frac{1}{12}$  D)  $\frac{1}{3}$

7. Gazın iyonlaşmış haline plazma denir.

Buna göre aşağıdakilerden hangisi plazmalara örnek verilemez?

- A) Güneş B) Azot gazı  
C) Yıldızlar D) Şimşek

8. Yarıçapı  $200 \text{ m}$  olan dairesel bir yolun yarısını  $20 \text{ s}$ 'de alan motosikletlinin sürati kaç  $\text{m/s}$ 'dir.  
( $\pi = 3$  alınacak)

- A) 100 B) 40  
C) 30 D) 10

9. Hareketi başlatan, hareketin hızını değiştiren veya cisimlerde şekil değişikliğine sebep olan etkiye ne ad verilir?

- A) Konum B) Kuvvet  
C) İvme D) Hız

10. Net bir kuvvetin etkisi altında hareket eden bir cismin ivmesi uygulanan kuvvetle doğru orantılı, kütlesiyle ters orantılıdır.

Bu tanımın matematiksel ifadesi aşağıdakilerden hangisidir?

- A) İvme = Kuvvet x Kütle  
B) İvme = Kuvvet / Kütle  
C) İvme = Kütle / Kuvvet  
D) İvme = Kuvvet + Kütle

11. Bilgisayarlarda kullanılan SSD (Katı hal disk) bellekler küçük yapısı ve hızlı veri kodlama özellikleri fiziğin hangi alt alanı ile ilgilidir?

- A) Optik  
B) İletkenlik ve manyetizma  
C) Dalgalar  
D) Katı hal fiziği

12. Kuvvet, hareket, enerji, ses, ışık, elektrik ve atom gibi konularla ilgilenen bilim dalına ne ad verilir?

- A) Kimya B) Fizik  
C) Biyoloji D) Edebiyat

13. Aşağıdakilerden hangisi nitel veridir?

- A) Uçakla yapılan yolculuklar zaman kazandırır.  
B) Ankara - İstanbul otobüsle 4 saat sürer  
C) Bir kilogram bin grama eşittir.  
D) Hızlı tren ile Ankara - Eskişehir 1 saat 30 dakikadır.

14. Fizikte kullanılan temel büyüklükler ve uluslar arası birim sistemi birimleri ile olan eşleştirmeler hangisinde yanlış verilmiştir?

Temel Büyüklük	Uluslararası Birim Sistemi Birimleri
A) Zaman	Saniye
B) Madde miktarı	Kilogram
C) Elektrik akımı	Amper
D) Işık şiddeti	Kandela

## 2. OTURUM

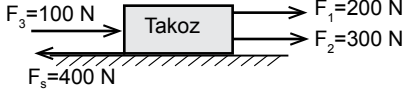
### (422) FİZİK – 2

15. Aşağıdakilerden hangisi vektörel bir büyüklüktür?

- A) Zaman B) Özkütle  
C) Kuvvet D) Hacim

16. Kütlesi 150 ton olan mavi balina kilogram cinsinden aşağıdakilerden hangisine eşittir?

- A)  $15 \cdot 10^6$  B)  $15 \cdot 10^4$   
C)  $15 \cdot 10^2$  D) 1,50

17. 

Şekildeki yatay düzlemde takozu etkileyen net kuvvet kaç N'dur? ( $F_s$  = Sürtünme kuvveti)

- A) 200 B) 300 C) 400 D) 600

18. Okula gitmek için evinden çıkan Ayşe Öğretmen 6 saat sonra evine dönüyor.

Ev ile okul arası 12 km olduğuna göre, Ayşe Öğretmenin yer değiştirmesi kaç kilometredir?

- A) 36 B) 24 C) 12 D) 0

19. Düz bir yolda bisikleti ile 28 m/s'lik hızla gitmekte olan Ömer, 4 m/s<sup>2</sup>'lik sabit ivmeyle bisikletini frenliyor.

Buna göre Ömer'in bisikleti kaç saniye sonra durur?

- A) 7 B) 16 C) 48 D) 96

20. I. Demiryolunda hızlanan tren  
II. Kırmızı ışığı görünce yavaşlayan otomobil  
III. Düz bir yolda sabit hızla giden kamyon

Araçların hangileri ivmeli hareket yapmıştır?

- A) I ve II B) II ve III  
C) Yalnız III D) Yalnız I

1. Yerde duran demir bilyeye 75 N'luk kuvvet uygulanıp, uygulanan kuvvet doğrultusunda 6 m hareket ettiriliyor.

Buna göre yapılan iş kaç juldür? (Sürtünme yok)

- A) 450 B) 300  
C) 150 D) 75

2. Hülya bisikleti ile giderken hızı 12 m/s olarak ölçülüyor.

Hülya ve bisikletin toplam kütlesi 54 kg olduğuna göre kinetik enerji kaç juldür?

- A) 4760 B) 3888  
C) 2785 D) 1467

3. Kütlesi 4 kg olan bir kutuya 50 J kütle çekim potansiyel enerji kazandırmak için kaç metre yüksekliğe çıkarmamız gerekir? ( $g = 10 \text{ m/s}^2$ )

- A)  $\frac{5}{4}$  B)  $\frac{3}{2}$  C)  $\frac{1}{2}$  D) 1

4. Aşağıdaki araçlardan hangisi kimyasal enerjiyi kinetik enerjiye çevirir?

- A) Florasan lamba  
B) Elektrik motoru  
C) Flaman ampul  
D) Araba motoru

5. Aşağıdakilerden hangisi fosil yakıt değildir?

- A) Petrol B) Kömür  
C) Deniz D) Doğal gaz

6. Aşağıdakilerden hangisi yenilenemez enerji kaynaklarına örnek olarak verilebilir?

- A) Nükleer enerji  
B) Dalga enerjisi  
C) Gelgit enerjisi  
D) Jeotermal enerji

7. Aşağıdakilerden hangisi enerji tasarrufu için yapılan bir uygulama değildir?

- A) Isıyı ayarlayabilen kalorifer vanası kullanmak  
B) Yemek pişirmek için düdüklü tencere kullanmak  
C) Toplu taşıma araçları yerine özel otomobil kullanmak  
D) Lavobalarda sensörlü musluk kullanmak

8. Termometrenin hassasiyeti

- I. içindeki sıvının cinsi  
II. bölme sayısı  
III. kılcal borunun cinsi

niceliklerinden hangilerine bağlıdır?

- A) I ve II B) II ve III  
C) I ve III D) I, II ve III

9. Bazı maddeler katı haldeyken ısı enerjisi alarak sıvı hale geçmeden gaz haline geçerler.

Bu olaya ne ad verilir?

- A) Süblimleşme  
B) Yoğunlaşma  
C) Buharlaşma  
D) Erime

10. Enerji iletim hızı maddenin,

- I. cinsi  
II. iki ucu arası sıcaklık farkı  
III. kalınlığı

faktörlerinden hangilerine bağlıdır?

- A) Yalnız I B) Yalnız III  
C) I ve II D) I, II ve III

11. Aşağıda verilen örneklerden hangisinde fiziksel anlamda iş yapıldığı kabul edilir?

- A) Sırada oturan öğrenci  
B) Yerdeki taşın rafa konulması  
C) Masa üstünde duran kitap  
D) Oturarak televizyon seyretmek

## 2. OTURUM

12. Düz yolda sabit  $V$  hızıyla hareket eden oyuncak trenin kütlesi 1800 g, kinetik enerjisi ise  $90 \text{ J}$ 'dür.

Buna göre trenin hızı kaç  $\text{m/s}$ 'dir?

- A) 2 B) 4 C) 6 D) 10

13. Aşağıdakilerden hangisi enerji tasarrufu için yapılan uygulamalardan biridir?

- A) Su damlatan muslukların tamir edilmemesi  
B) Yemek pişirmek için düdüklü tencere kullanmak  
C) Bina izolasyonunda köpük sistemi kullanmamak  
D) Yaz aylarında klima kullanmak

14. Yüksek sıcaklık ölçümlerinde fabrika ve fırınlarda aşağıdaki termometrelerden hangisi kullanılır?

- A) Metal termometreler  
B) Sıvılı termometreler  
C) Gazlı termometreler  
D) Hasta termometreleri

15. Sıcaklık ile ilgili;

- I. Bir enerjidir.  
II. Madde miktarına bağlıdır.  
III. Termometre ile ölçülür.

yargılarından hangileri doğrudur?

- A) Yalnız III B) I ve II  
C) II ve III D) I, II ve III

16. Bir inşaattaki elektrik motoru ile kurulan sistemde  $100 \text{ kg}$ 'lık demir parçaları yerden  $8 \text{ m}$ 'lik yüksekliğe sabit hızda  $10 \text{ s}$ 'de çıkarılıyor.

Buna göre motorun mekanik gücü kaç wattır?  
( $g=10 \text{ m/s}^2$  alınacak)

- A) 800 B) 1200  
C) 1800 D) 10 000

17. Çaydanlıktaki  $500 \text{ g}$  suyun sıcaklığını  $20^\circ\text{C}$ 'den  $90^\circ\text{C}$ 'ye çıkarmak için suya verilmesi gereken ısı miktarı kaç kaloridir? ( $C_{\text{su}} = 1 \text{ cal/g}^\circ\text{C}$ )

- A) 35 B) 350  
C) 3500 D) 35000

18.  $5 \text{ g}$  suyun sıcaklığını  $15^\circ\text{C}$ 'den  $16^\circ\text{C}$ 'ye çıkarmak için gerekli enerji kaç kaloridir?  
( $c_{\text{su}} = 1 \text{ cal/g}^\circ\text{C}$ )

- A) 15 B) 8 C) 6 D) 5

19. Katı hâldeki bir maddenin enerji alarak sıvı hâle geçmesi olayına ne denir?

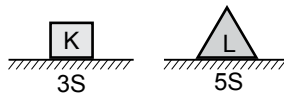
- A) Donma B) Erime  
C) Buharlaştırma D) Yoğuşma

20. Enerjinin maddesel ortama ihtiyaç duymadan yayılmasına aşağıdakilerden hangisi örnek verilebilir?

- A) Suyun ocakta kaynaması  
B) Demirin ateşte ısıtılması  
C) Güneş ışınlarının dünyaya ulaşması  
D) Çay bardağının içindeki kaşığın ısınması

### (423) FİZİK – 3

1. Şekildeki K ve L cisimlerinin yatay düzleme yaptıkları basınçlar eşittir.



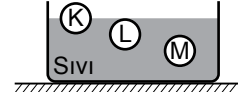
Buna göre K cisminin ağırlığı ( $G_K$ ), L cisminin ağırlığının ( $G_L$ ) kaç katıdır?

- A)  $\frac{3}{5}$  B)  $\frac{2}{5}$  C)  $\frac{1}{5}$  D) 1

2. Otomobil lastiklerinin basınçlarını ölçmek için kullanılan araçlara ne ad verilir?

- A) Dinamometre  
B) Termometre  
C) Barometre  
D) Manometre

3. Eşit hacimli K, L, M cisimleri sıvı içinde şekildeki gibi dengededir.



Buna göre cisimlerin ağırlıkları  $G_K$ ,  $G_L$ ,  $G_M$ 'nin büyüklükleri arasındaki ilişki nedir?

- A)  $G_K > G_L > G_M$   
B)  $G_M > G_L > G_K$   
C)  $G_M = G_L > G_K$   
D)  $G_K = G_L = G_M$

4. Elektrik yüklerinin özellikleri ile ilgili aşağıdaki ifadelerden hangisi yanlıştır?

- A) Elektriklenmeyi sağlayan temel parçacık nötrondur.  
B) Nötr atomda pozitif yük sayısı negatif yük sayısına eşittir.  
C) Atom çekirdeğinde, pozitif yükler hareket etmez.  
D) Elektronlar cisimler arasında alınıp verilebilir.

5. Aşağıdakilerden hangisi iletken maddedir?

- A) Porselen B) Kauçuk  
C) Tuzlu su D) Cam

6. Metal tellerin direnci ile ilgili,

- I. Telin boyu ile ters orantılıdır.  
II. Telin kesit alanı ile doğru orantılıdır.  
III. Telin cinsine bağlıdır.

yargılarından hangileri yanlıştır?

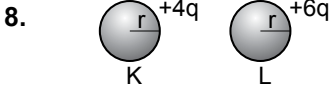
- A) Yalnız I B) I ve II  
C) II ve III D) Yalnız III



## 2. OTURUM

7. 30 V'luk potansiyel farkı altında 2A akım geçiren bir iletkenin 15 saniyede harcadığı enerji kaç juldür?

- A) 3600 B) 1200  
C) 900 D) 180



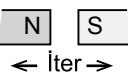


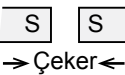
Yükleri +4q ve +6q olan K, L küreleri birbirlerine dokundurulup ayrılırsa kürelerin son yükleri kaç q olur?

- A)  $\frac{K}{2q}$   $\frac{L}{5q}$   
B) 5q 5q  
C) 6q 4q  
D) 6q 6q

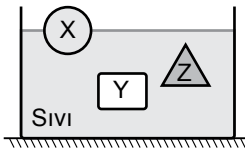
9. Açık hava basıncını ölçen alet aşağıdakilerden hangisidir?

- A) Altimetre B) Manometre  
C) Batimetre D) Barometre

10. Mıknatısın kutuplarının oluşturduğu manyetik alandaki itme veya çekme durumları aşağıdakilerden hangisinde doğru verilmiştir?

- A)  B)   
C)  D) 

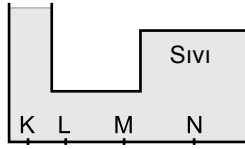
11. Eşit kütleli X, Y, Z cisimleri şekildeki gibi sıvı içerisinde yüzmektedir.



Cisimlere etki eden kaldırma kuvvetleri  $F_X$ ,  $F_Y$ ,  $F_Z$  arasındaki ilişki nasıldır?

- A)  $F_X > F_Z > F_Y$   
B)  $F_Y > F_Z > F_X$   
C)  $F_Y = F_Z > F_X$   
D)  $F_X = F_Y = F_Z$

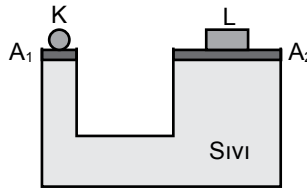
12.



İçi sıvı dolu kabın K, L, M, N noktalarındaki sıvı basınçları  $P_K$ ,  $P_L$ ,  $P_M$ , ve  $P_N$  arasındaki büyüklük sıralaması nasıldır?

- A)  $P_K > P_N > P_L > P_M$   
B)  $P_N > P_M > P_L > P_K$   
C)  $P_K = P_L = P_M = P_N$   
D)  $P_K = P_N > P_L = P_M$

13. Aşağıdaki sıvılı sistem dengededir.



Ağırlığı önemsiz pistonların kesit alanları oranı  $\frac{A_1}{A_2} = \frac{1}{5}$  olduğuna göre L'nin ağırlığı K'nın ağırlığının kaç katıdır?

- A) 10 B) 8 C) 5 D) 2

14. Metal tellerin elektrik direnci ile ilgili aşağıdaki ifadelerden hangisi yanlıştır?

- A) Telin direnci telin boyu ile doğru orantılıdır.  
B) Telin öz direnci maddeler için ayırt edici bir özellik değildir.  
C) Telin direnci telin türüne bağlıdır.  
D) Telin direnci telin kesit alanı ile ters orantılıdır.

15. İletken bir telin uçlarına 12 voltluk gerilim uygulayınca telin kesitinden 4 amper şiddetinde akım geçiyor.

Buna göre telin direnci kaç ohmdur?

- A) 2 B) 3 C) 4 D) 6

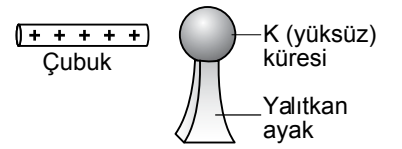
16. Elektrik yüklerinin kaynağı olan atomlarla ilgili;

- I. Proton, nötron ve elektron olan üç temel parçacıktan oluşur.  
II. Proton ve nötronlar atomun çekirdeğinde yer alır.  
III. Elektronlar atom çekirdeğinin çevresinde belirli yörüngelerde dolanırlar.





yargılarından hangileri doğrudur?

- A) Yalnız I B) I ve II  
C) II ve III D) I, II ve III

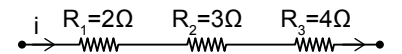
17.



Şekildeki + yüklü çubuk yalıtkan ayaklar üzerinde duran yüksüz K küresine dokundurulursa iletken küre nasıl yüklenir?

- A)  B)   
C)  D) 

18. Şekildeki devre parçasından i elektrik akımı geçerken  $2\Omega$ 'luk dirençle harcanan güç 72 watt oluyor.



Buna göre  $R_2 = 3\Omega$ 'luk direncin uçları arasındaki potansiyel farkı kaç voltur?

- A) 36 B) 24 C) 18 D) 7

## 2. OTURUM

### 19. Ferromanyetik maddelerle ilgili;

- Bağıl manyetik geçirgenliği 1'den çok büyük olan maddelerdir.
- Demir, nikel kobalt oda sıcaklığında ferromanyetik maddedir.
- Ferromanyetik maddeler doğal mıknatis elektrik motoru ve jeneratör yapımında kullanılır.

yargılarından hangileri doğrudur?

- A) Yalnız III      B) Yalnız II  
C) I ve II      D) I, II ve III

### 20. Aşağıdakilerden hangisinde elektromıknatis kullanılmaz?

- A) Dinamometre  
B) Hoparlör  
C) Manyetik vinçler  
D) Televizyon

(424) FİZİK – 4

### 1. Aşağıdakilerden hangisi elektromanyetik dalgalara örnek değildir?

- A) Radyo dalgaları  
B) X-ışınları  
C) Su dalgaları  
D) Gama ışınları

### 2. Periyodik bir dalga kaynağı saniyede 4 dalga üretmektedir. Dalgaların yayıldığı ortamdaki hızı 20 cm/s olduğuna göre dalga boyu kaç cm'dir?

- A) 5      B) 10      C) 15      D) 20

### 3. Aşağıdakilerden hangisi yalnızca enine dalga özelliği gösterir?

- A) Su dalgası  
B) Yay dalgası  
C) Ses  
D) Elektromanyetik dalga

### 4. Bir dalga leğeninde doğrusal dalgalara 16 yarıkli stroboskobun arkasından bakılıyor. Stroboskobun frekansı $\frac{1}{2} \text{ s}^{-1}$ olduğunda dalgalarda hareketsizmiş gibi görünüyor.

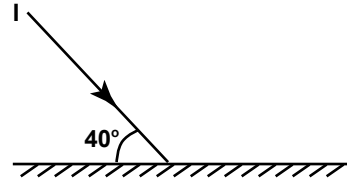
Dalgaların frekansı kaç  $\text{s}^{-1}$ 'dir?

- A) 4      B) 6      C) 8      D) 10

### 5. Aşağıdakilerden hangisi saydam olmayan maddelere örnek verilir?

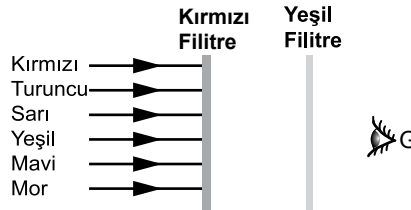
- A) Hava      B) Su  
C) Taş      D) Buzlu cam

### 6. Düzlem aynaya şekildeki gibi gelen I ışınının düzlem aynadan yansıma açısı kaç derecedir?



- A) 40      B) 50      C) 60      D) 70

### 7. Üzerine beyaz ışık düşürülen renkli saydam maddelere (filtreler) G noktasından bakıldığında hangi renkte görünür?



- A) Siyah      B) Sarı  
C) Kırmızı      D) Yeşil

### 8. Bir merceğin odak uzaklığı;

- merceğin kırılma indisi
- ortamın indisi
- merceklerin eğrilik yarıçapları

yargılarından hangilerine bağlıdır?

- A) I ve II      B) II ve III  
C) I ve III      D) I, II ve III

### 9. Bir dalga kaynağı 4s'de 60 dalga üretiyor. Dalga boyu $\lambda=8 \text{ cm}$ olduğuna göre yayılan dalgaların hızı kaç cm/s'dir?

- A) 340      B) 120  
C) 80      D) 24

### 10. Aşağıdakilerden hangisi saydam cisimdir?

- A) Buzlu cam      B) Mumlu kağıt  
C) Hava      D) Toprak

### 11. Su dalgalarıyla ilgili,

- Tepe ve çukur noktalardan oluşurlar
- Ortam değişmezse hızları değişmez
- Ortam değişince dalga boyu değişir

yargılarından hangileri doğrudur?

- A) I ve II      B) II ve III  
C) I, II ve III      D) Yalnız I

### 12. Periyodu 5s olan doğrusal bir dalga kaynağında ardışık 5 dalga tepesi arası uzaklık 40 cm olduğuna göre dalgaların hızı kaç cm/s'dir?

- A) 2      B) 5      C) 10      D) 12

### 13. Bir ses kaynağından yayılan ses dalgaları çevredeki ses kaynaklarını titreştirebilir.

Buna göre frekansları aynı olan kaynaklardan biri titreştirildiğinde diğer ses kaynağının etki ile titreşmesi olayına ne ad verilir?

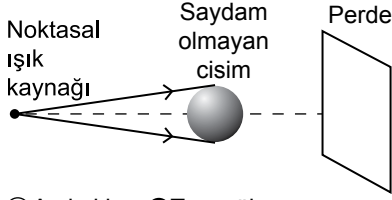
- A) Sönümlenme  
B) Rezonans  
C) Frekans  
D) Diyapozon

### 14. Aşağıdakilerden hangisi yarı saydam cisimlere örnek verilir?

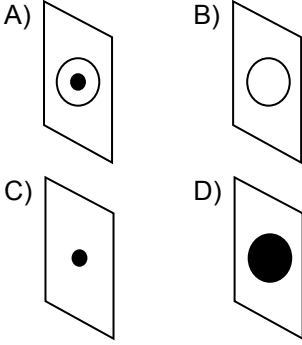
- A) Cam  
B) Su  
C) Mumlu kağıt  
D) Hava

## 2. OTURUM

15. Şekildeki noktasal ışık kaynağının uzağındaki saydam olmayan küresel cismin perde üzerinde oluşan görüntüsü aşağıdakilerden hangisidir?



○ Aydınlık ● Tam gölge



16. Aşağıdakilerden hangisi mekanik dalgalara örnek değildir?

- A) Radyo dalgaları  
B) Su dalgaları  
C) Yay dalgaları  
D) Ses dalgaları

17. Deprem sonucu oluşan yer hareketlerini sürekli kaydeden düzeneklere ne ad verilir?

- A) Sismoloji  
B) Sismograf  
C) Kriptoloji  
D) Kaligraf

18. Bir cismin düzlem aynadaki görüntüsüne olan uzaklığı 120 cm ise görüntü ile ayna arasındaki uzaklık kaç santimetredir?

- A) 60 B) 90 C) 120 D) 180

19. Aşağıdakilerden hangisi ışığın ana renklerini oluşturur?

- A) Yeşil ışık + Yeşil ışık + Kırmızı ışık  
B) Mavi ışık + Sarı ışık + Yeşil ışık  
C) Kırmızı ışık + Yeşil ışık + Mavi ışık  
D) Kırmızı ışık + Sarı ışık + Mavi ışık

20. İnce kenarlı bir mercekte sonsuzdaki bir cismin görüntüsüyle ilgili;

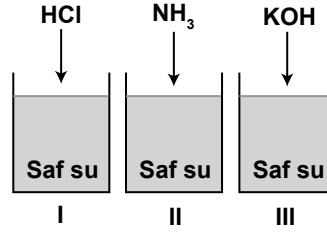
- I. Odakta olur.  
II. Gerçektir.  
III. Noktasaldır.

yargılarından hangileri doğrudur?

- A) Yalnız I B) I ve II  
C) II ve III D) I, II ve III

### (433) KİMYA – 3

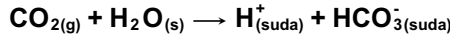
1. İçerisinde saf su bulunan kaplara üzerindeki maddeler eklenip, çözülüyor.



Buna göre oluşan çözeltilerin asidik veya bazik olarak sınıflandırılması aşağıdakilerin hangisinde doğru verilmiştir?

	I	II	III
A)	Asidik	Asidik	Bazik
B)	Asidik	Bazik	Bazik
C)	Bazik	Bazik	Bazik
D)	Asidik	Asidik	Asidik

2. CO<sub>2</sub> gazının suda çözünme denklemi aşağıdaki gibidir.



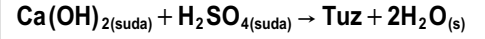
Buna göre CO<sub>2</sub> gazının sulu çözeltisi ile ilgili verilen;

- I. Mavi turnusol kağıdını kırmızıya çevirir.  
II. 25°C 'de pH değeri 7'den küçüktür.  
III. Elektrik akımını iletir.

bilgilerinden hangileri doğrudur?

- A) Yalnız I B) I ve II.  
C) II ve III. D) I, II ve III.

3.



Verilen tepkimede oluşan tuzun formülü aşağıdakilerden hangisidir?

- A) CaS B) CaSO<sub>3</sub>  
C) CaSO<sub>4</sub> D) CaS<sub>2</sub>O<sub>3</sub>

4. Aşağıdaki maddelerden hangisinin sudaki iyonlaşma denklemi yanlış verilmiştir?

- A) HCOOH<sub>(suda)</sub> → HCO<sup>+</sup><sub>(suda)</sub> + OH<sup>-</sup><sub>(suda)</sub>  
B) HNO<sub>2(suda)</sub> → H<sup>+</sup><sub>(suda)</sub> + NO<sub>2(suda)</sub><sup>-</sup>  
C) Ca(OH)<sub>2(suda)</sub> → Ca<sup>2+</sup><sub>(suda)</sub> + 2OH<sup>-</sup><sub>(suda)</sub>  
D) HNO<sub>3(suda)</sub> → H<sup>+</sup><sub>(suda)</sub> + NO<sub>3(suda)</sub><sup>-</sup>

5. Asit ve baz çözeltileri ile ilgili aşağıda verilen bilgilerden hangisi yanlıştır?

- A) H<sup>+</sup> > OH<sup>-</sup> ise çözelti asidiktir.  
B) H<sup>+</sup> < OH<sup>-</sup> ise çözelti baziktir.  
C) H<sup>+</sup> = OH<sup>-</sup> ise çözelti nötrdür.  
D) Ortamdaki H<sup>+</sup> iyon sayısı arttıkça pH artar.

6. Ametallerin oksijence zengin bileşiklerine asit oksit denir.

Buna göre aşağıdaki maddelerden hangisi asit oksittir? (7N, 11Na)

- A) N<sub>2</sub>O B) N<sub>2</sub>O<sub>3</sub>  
C) NO D) Na<sub>2</sub>O

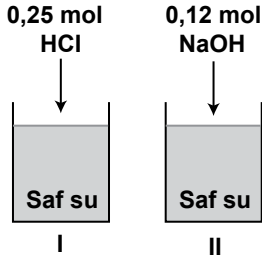
7. • Cam ve seramik maddeleri aşındırmada  
• Yangın söndürücü köpüklerin üretiminde  
• Isıya dayanıklı plastiklerin üretiminde

Bazı kullanım alanları verilen madde aşağıdakilerden hangisidir?

- A) HF B) HCl  
C) NaOH D) NH<sub>3</sub>

## 2. OTURUM

8. İçerisinde saf su bulunan kaplara üzerindeki maddeler belirtilen miktarda eklenip, tamamen çözülüyor. Oluşan çözeltiler daha sonra birbiriyle karıştırılıyor.



Buna göre aşağıdaki açıklamalardan hangisi yanlıştır?

(Fenolftalein 8,3'ten küçük pH'larda renksiz, 10'dan büyük pH'larda pembe renklidir.)

- A) Nötrleşme tepkimesi olur.  
B) HCl'nin bir kısmı artar.  
C) Oluşan çözeltiler fenolftalein eklenirse pembe renge dönüşür.  
D) Oluşan çözelti elektrik akımını iletir.

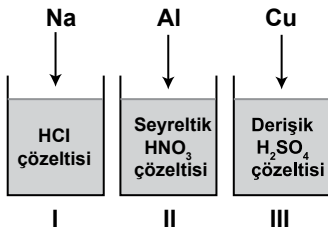
9.

Formül	Yaygın adı
I. $H_2SO_4$	Zaç yağı
II. KOH	Şap
III. $Ca(OH)_2$	Amonyak

Yukarıda formülleri verilen bileşiklerden hangilerinin yaygın adı doğru yazılmıştır?

- A) Yalnız I B) I ve II.  
C) II ve III. D) I, II ve III.

10. Kaplarda bulunan çözeltilerin içerisine üzerinde verilen metaller ekleniyor.



Buna göre hangi kaplarda  $H_2$  gazı açığa çıkar?

- A) Yalnız II B) I ve II.  
C) I ve III. D) I, II ve III.

11. Aşağıda verilen madde örneklerinden hangisi heterojen bir karışımdır?

- A) Şekerli su  
B) Kolonya  
C) Maden suyu  
D) Ayran

12.

Madde	Polar/Apolar
Su	Polar
Brom sıvısı	Apolar
Karbon tetraklorür	Apolar
Etanol	Polar

Yukarıda bazı maddelerin molekül polarlığı ve apolarlığı verilmiştir.

Buna göre aşağıdaki madde çiftlerinden hangilerinin birbiri içerisinde iyi çözünmesi beklenir?

- A) Su - brom sıvısı  
B) Karbon tetraklorür - etanol  
C) Su - etanol  
D) Brom sıvısı - etanol

13. 25 gram glikoz ( $C_6H_{12}O_6$ )'un 100 gram su içerisinde tamamen çözünmesi sonucu hazırlanan çözeltilerde glikozun kütlece yüzde derişimi kaçtır?

- A) 10 B) 20 C) 25 D) 50

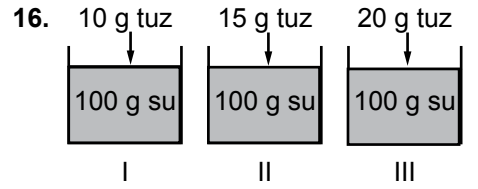
14. 50 mL etanol ( $C_2H_5OH$ )'ün yeterince su eklenerek elde edilen 200 mL etanol-su çözeltilesindeki etanolün hacimce yüzdesi kaçtır?

- A) 10 B) 20 C) 25 D) 50

15. I. Kütlece %12'lik şeker çözeltili  
II. Kütlece %24'lük şeker çözeltili  
III. Kütlece %36'lık şeker çözeltili

Aynı şartlarda hazırlanan yukarıdaki sulu çözeltilerin kaynama noktalarının karşılaştırılması aşağıdakilerden hangisinde doğru verilmiştir?

- A) I = II = III B) I > II > III  
C) III > II > I D) II > III > I



Kaplarda bulunan aynı sıcaklıktaki su örneklerine üzerinde verilen maddeler belirtilen miktarlarda eklenip, tamamen çözülüyor.

Oluşan çözeltiler için aşağıdaki ifadelerden hangisi yanlıştır?

- A) III. çözelti, en derişik çözeltilerdir.  
B) II. çözelti, I.'ye göre daha derişiktir.  
C) I. çözelti, III.'ye göre daha seyreltiktir.  
D) I. çözelti, III.'ye göre daha derişiktir.

17. Aşağıdakilerden hangisi yoğunluk farkından yararlanılarak yapılan bir ayırma yöntemidir?

- A) Yüzdürme B) Damıtma  
C) Süzme D) Süblimleşirme

18. Zeytinyağı saf su içerisinde çözünemeyen bir sıvıdır.

Buna göre zeytinyağı-su karışımını birbirinden ayırmak için kullanılan ayırma yöntemi aşağıdakilerden hangisidir?

- A) Ayırma hunisi  
B) Süzme  
C) Diyaliz  
D) Pihtılaştırma

19. %10' luk şeker çözeltilerinden aynı şartlarda 100 g ve 200 g kütleli iki ayrı örnek alınıyor.

Bu çözeltiler için;

- I. Kaynama noktası  
II. Şeker molekülleri sayısı  
III. Donma noktası

niceliklerinden hangileri farklıdır?

- A) Yalnız I B) Yalnız II  
C) I ve II. D) II ve III.

## 2. OTURUM

20. 

I. Emülsiyon	a) Çamurlu su
II. Süspansiyon	b) Sis
III. Aerosol	c) Zeytinyağı- su

Yukarıda bazı heterojen karışım türleri ve örnekleri verilmiştir.

**Buna göre aşağıdaki eşleştirmelerden hangisi doğrudur?**

- A) I - a      B) I - c  
 II - b      II - a  
 III - c      III - b
- C) I - c      D) I - a  
 II - b      II - c  
 III - a      III - b

### (434) KİMYA – 4

1. I. Kömür  
 II. Petrol  
 III. Güneş

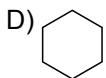
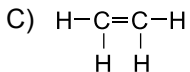
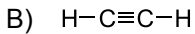
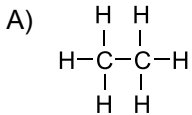
**Yukarıda verilen enerji kaynaklarından hangileri fosil yakıtlardandır?**

- A) Yalnız I      B) I ve II.  
 C) II ve III.      D) I, II ve III.

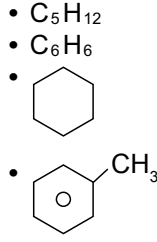
2. **Aşağıdakilerden hangisi ham petrolü bileşenlerine ayırmak için kullanılan ayırma işlemidir?**

- A) Damıtma  
 B) Ayırma hunisi  
 C) Flotasyon  
 D) Ayrımsal kristallendirme

3. **Aşağıdakilerden hangisi alken sınıfı bir bileşiktir?**



4. Hidrokarbonlar karbon ve hidrojen elementlerinden oluşmuş bileşiklerdir.



**Yukarıda verilen bileşiklerden kaç tanesi hidrokarbon sınıfı bir bileşiktir?**

- A) 1      B) 2      C) 3      D) 4

5. **Aşağıdakilerden hangisi yenilenebilir enerji kaynağı değildir?**

- A) Rüzgar      B) Güneş  
 C) Petrol      D) Jeotermal

6. Kömürün yapısında bulunan karbon yüzdesi arttıkça birim kütlede açığa çıkaracağı ısı değeri artar.

Kömür türü	Kütlece karbon (C) yüzdesi
Linyit	25-35
Alt bitümlü kömürler	35-49
Bitümlü kömürler	45-85
Antrasit	> 85

**Buna göre tabloda verilen kömür türlerinden eşit kütlelerde alınıp yakılırsa hangisinin ısı değeri diğerlerinden daha fazla olur?**

- A) Linyit  
 B) Alt bitümlü kömür  
 C) Bitümlü kömürler  
 D) Antrasit

7. I. Yakılması çevre kirliliğine yol açar.  
 II. Dünya üzerinde çok miktarda rezervi vardır.  
 III. Yenilenebilir bir enerji kaynağı değildir.

**Yukarıda verilenlerden hangileri kömürün yakıt olarak kullanılmasının avantajları arasında yer alır?**

- A) Yalnız I      B) Yalnız II  
 C) Yalnız III      D) II ve III.

8. I. Karbonhidrat  
 II. Yağ  
 III. Protein

**Yukarıda verilenlerden hangileri gıdalarda bulunan besin maddeleri arasında yer alır?**

- A) Yalnız I      B) Yalnız II  
 C) I ve III.      D) I, II ve III.

9. **Aşağıda verilenlerden hangisi bir monosakkarittir?**

- A) Glikoz      B) Selüloz  
 C) Nişasta      D) Maltoz

10. Bir laboratuvarında yapılan analiz sonucu dört farklı su örneğindeki  $\text{Ca}^{2+}$  iyonu miktarları tabloda verilmiştir.

Su örneği	1 L sudaki $\text{Ca}^{2+}$ miktarı (mg)
1.örnek	15
2.örnek	7
3.örnek	18
4.örnek	4

**Buna göre hangi su örneği diğerlerine göre daha yumuşaktır?**

- A) 1. örnek      B) 2. örnek  
 C) 3. örnek      D) 4. örnek

11. **Aşağıdaki su örneklerinden hangisinin hacimce içilebilir sular içindeki payı en yüksektir?**

- A) Buzullar      B) Göller  
 C) Akarsular      D) Yeraltı suları

12. **Sert sular için;**

- I.  $\text{Ca}^{2+}$  ve  $\text{Mg}^{2+}$  iyonları bakımından zengindir.  
 II. Kağıt, boya, tekstil ve gıda endüstrilerinde kullanımları uygundur.  
 III. Sabun ile etkileşimleri sonucu sabun taşı oluştururlar.

**yargılarından hangileri doğrudur?**

- A) I ve II.      B) I ve III.  
 C) II ve III.      D) I, II ve III.

## 2. OTURUM

13. Aşağıdakilerden hangisi suyun kirlenmemesi ve ziyan olmaması için alınacak önlemlerden biri değildir?

- A) Yerleşim yerleri tatlı su kaynaklarının yakınında kurulmalı
- B) Yeraltı sularından yararlanılan yerlerde kirli suların toprağa karışması önlenmeli
- C) Evlerde bulaşıklar makinada yıkanmalı
- D) Evsel endüstriyel atık sular arıtım tesislerinde arıtılmalı

14. Aşağıdaki gıda katkı maddelerinden hangisinin kullanım amacı yanlış verilmiştir?

Katkı maddesi	Kullanım amacı
A) Gıda boyaları	Görünümde çekicilik
B) Koruyucular	Raf ömrünü uzatmak
C) Antibiyotikler	Canlıyı hastalıktan korumak
D) Emülgatörler	pH değerini ayarlamak

15. Sabunlar için;

- I. Yağ asidi ve bazların hidrolizi sonucu oluşur.
- II. Sulu ortamda kirleri temizlerken misel yapı oluşturur.
- III. Sadece hidrofil uçtan oluşurlar.

yargılarından hangileri doğrudur?

- A) Yalnız I
- B) Yalnız II
- C) I ve II.
- D) II ve III.

16. Deterjanlar için aşağıdaki yargılardan hangisi yanlıştır?

- A) Doğada kolay parçalanmayan maddelerden oluşurlar.
- B) Sert sulardan az etkilenirler.
- C) Petrol kaynaklı kimyasal maddelerden üretilirler.
- D) Cildi tahriş ederler.

17. Yüzey aktif maddeler için;

- I. Yağın suya karışmasını sağlar.
- II. Yağ damlacıklarını kuşatarak suda misel yapı oluşturur.
- III. Hidrofil ve hidrofob grup içerirler.

yargılarından hangileri doğrudur?

- A) I ve II.
- B) I ve III.
- C) II ve III.
- D) I, II ve III.

18. Polietilen (PE) maddesi için;

- I. Polimerleşme ürünüdür.
- II. Naylon ve poşet yapımında kullanılır.
- III. Monomeri etan (C<sub>2</sub>H<sub>6</sub>)'dir.

yargılarından hangileri doğrudur?

- A) Yalnız I
- B) I ve II.
- C) I ve III.
- D) II ve III.

19. Aşağıdakilerden hangisi hava kirliliğini önlemek için alınması gereken tedbirler arasında yer almaz?

- A) Fosil yakıtların tüketilmesi
- B) Planlı yapılaşma
- C) Fabrikalardan çıkan gazların filtre edilmesi
- D) Yakma sistemlerinin geliştirilmesi

20. Aşağıdakilerden hangisi toprak kirliliğinin oluşmasına sebep olan etkenler arasında yer almaz?

- A) Asit yağmurları
- B) Çöpler
- C) Ağaçlandırma yapılması
- D) Yoğun gübreleme/ ilaçlama yapılan tarım faaliyetleri

(443) BİYOLOJİ – 3

1. Aşağıda verilenlerden hangisi hücre döngüsünün mitoz süreci içerisinde yer alan evrelerden biri değildir?

- A) Profaz
- B) Telofaz
- C) Sitokinez
- D) İnterfaz

2. Bir hücrede çekirdek bölünmesinin olmasına karşın sitoplazma bölünmesi gerçekleşmez ise,

- I. Çok çekirdekli hücreler oluşur.
- II. Hücre hacmi küçülür.
- III. Hücre yaşamı sonlanır.

verilenlerden hangileri gözlenir?

- A) Yalnız I
- B) Yalnız II
- C) Yalnız III
- D) I ve II

3. 2n=36 kromozomlu bir hücre peş peşe üç mitoz bölünme yapar ise,

- a) oluşan hücre sayısı
- b) oluşan her bir hücrenin kromozom sayısı

değerleri aşağıdakilerden hangisinde verilmiştir?

	a	b
A)	2	18
B)	4	36
C)	8	36
D)	8	72

4. Aşağıda verilen canlılardan hangisinin çoğalması bölünme yoluyla olmaz?

- A) Paramesyum
- B) Karayosunu
- C) Bakteri
- D) Maya mantarı

5. Canlıdan kopan parçanın kendini tamamlayarak yeni bir canlı oluşturması şeklinde gerçekleşen üreme şekli aşağıda verilen canlılardan hangisinde gözlenebilir?

- A) Bira mayası
- B) Eğrelti otu
- C) Kertenkele
- D) Toprak solucanı

## 2. OTURUM

6. Çiçeksiz bitkilerin üremesi sırasında gözlenen,

- I. Spor
- II. Gametofit
- III. Zigot
- IV. Sporofit

yapıları haploit (n) ve diploit (2n) kromozomlu olanlar şeklinde gruplandırılırsa aşağıdakilerden hangisi doğru olur?

- |              |   |           |
|--------------|---|-----------|
|              | n | 2n        |
| A) I ve II   |   | III ve IV |
| B) I ve III  |   | II ve IV  |
| C) II ve III |   | I ve IV   |
| D) III ve IV |   | I ve II   |

7. Aşağıda verilen, vejetatif üreme şekli – üremeyi gerçekleştiren canlı eşleştirmelerinden hangisinde yanlışlık yapılmıştır?

	Üreme şekli	Canlı
A)	Rizomla üreme	Zencefil
B)	Çelikle üreme	Afrika menekşesi
C)	Soğanla üreme	Lale
D)	Sürünücü gövdeyle üreme	Patates

8. Aşağıda verilen olaylardan hangisi mayoz bölünmenin Profaz I aşamasında gözlenmez?

- A) Tetrat oluşumu
- B) Cross-over
- C) Kromozom ayrılması
- D) Sinapsis

9. Eşeyli üreme sırasında gerçekleşen,

- I. Mayoz hücre bölünmesi ile gametlerin oluşması
- II. Sperm ve yumurtanın birleşmesiyle zigotun oluşması
- III. Zigotun mitoz bölünmeler ile embriyoyu oluşturması

olaylarından hangileri kalıtsal çeşitliliğe neden olur?

- A) I ve II
- B) I ve III
- C) II ve III
- D) I, II ve III

10.

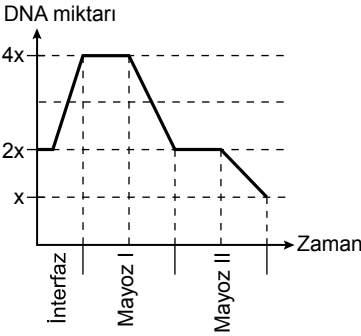
	Özellik	Mayoz I	Mayoz II
I.	Öncesinde interfazın gerçekleşmesi	+	a
II.	Kardeş kromatitlerin ayrılması	b	+
III.	Sitokinezin gözlenmesi	c	+

(+; özelliğin görüldüğünü, -; özelliğin görülmediğini ifade eder.)

Tablo incelendiğinde a, b ve c'nin işaretleri sırasıyla aşağıdakilerden hangisindeki gibi olmalıdır?

- A) +, +, -
- B) +, -, +
- C) -, -, +
- D) -, +, -

11.



Mayoz hücre bölünmesinin gösterildiği bu grafiğe göre aşağıdakilerden hangisi doğru değildir?

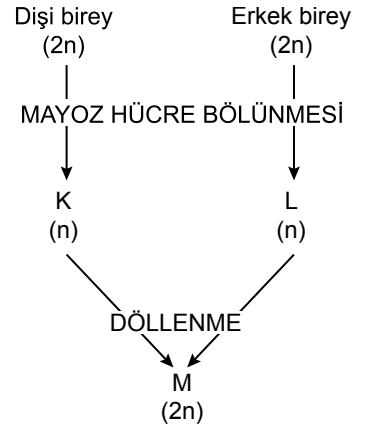
- A) İnterfazda DNA replikasyonu gerçekleşmiştir.
- B) Mayoz I'de kromozom sayısı yarıya inmiştir.
- C) Bölünme sonucunda ana hücrenin DNA miktarı yarıya inmiştir.
- D) Mayoz I'den sonra tekrar DNA replikasyonu ile DNA miktarı artmıştır.

12.

Aşağıdaki mayozun özelliklerinden hangisi mitoz hücre bölünmesinde de görülür?

- A) Bir türün bireyleri arasında genetik çeşitliliği sağlaması
- B) Hücre bölünmesi öncesinde DNA replikasyonunun olması
- C) Atalarının taşıdığı kromozom takımının yarısına sahip hücrelerin oluşması
- D) Diploit eşey ana hücrelerinden haploit kromozomlu üreme hücrelerinin oluşması

13.



Bu şemada K, L, M yerine aşağıdakilerden hangisi gelmelidir?

	K	L	M
A)	Sperm	Yumurta	Zigot
B)	Yumurta	Zigot	Sperm
C)	Zigot	Sperm	Yumurta
D)	Yumurta	Sperm	Zigot

14.

- I. İşçi arı
- II. Erkek arı
- III. Kraliçe arı

Yukarıdaki bireylerden hangileri kısırdır?

- A) Yalnız I
- B) Yalnız II
- C) I ve II
- D) II ve III

15.

Aşağıdakilerden hangisi partenogenezle üreme örneklerinden birisi değildir?

- A) İki eşit parçaya bölünen deniz yıldızının her bir parçasının gelişerek iki deniz yıldızı oluşması
- B) Kamçı kuyruklu kertenkelelerde yumurta oluşurken mayoz II'de yumurta hücresi ile kutup hücresinin çekirdeği kaynaşarak döllenmesizin diploit bireyin oluşması
- C) Toplu iğne ucu ile dokunulan kurbağa yumurtasının döllenmiş gibi uyarılıp gelişmesi ile haploit bireylerin oluşması
- D) Bal arılarında kraliçe arının mayoz bölünme ile oluşturduğu yumurtaların döllenmeden gelişerek haploit (n) kromozomlu erkek arının oluşması



## 2. OTURUM

### (444) BİYOLOJİ – 4

16. I. Zigot  
II. Blastomer  
III. Morula

**İnsan embriyosu gelişirken verilenler hangi sıraya göre oluşur?**

- A) I – II – III      B) I – III – II  
C) II – I – III      D) II – III – I

17. Embriyonun tüm örtülerini en dıştan saran koruyucu zara ne ad verilir?

- A) Amniyon      B) Vitellus  
C) Koriyon      D) Allantoyis

18. Amniyosentez yöntemi uygulanırken verilenlerden hangisine dikkat edilmez?

- A) Hamileliğin 16. haftasında olmasına  
B) Ayrıntılı ultrason yapıldıktan sonra uygulanmasına  
C) Bebeğin rahim içindeki durumu tespit edildikten sonra yapılmasına  
D) Embriyonun rahime tutulduğunun anlaşılmasından sonra uygulanmasına

19. Aşağıdakilerden hangisi erkek üreme sistemiyle ilgili değildir?

- A) Epididimis  
B) Uterus  
C) Seminifer tüpçük  
D) Vas deferens

20. Menstruasyonun ovulasyon evresinde etkin olan hormon hangisidir?

- A) Progesteron      B) Östrojen  
C) FSH      D) LH

1. • Kalıtsal olarak bir canlıdan yavrulara aktarılabilen özelliklerdir.  
• Bir karakterin kalıtımından sorumlu gen çeşitlerinden her biridir.  
• Kromozomlarda, her karakter için ilgili genin kapladığı bölgedir.

**Verilen açıklamalar incelendiğinde aşağıdakilerden hangisinin karşılığı yoktur?**

- A) Dominant      B) Lokus  
C) Karakter      D) Alel

2. Homozigot sarı tohumlu bezelyenin yeşil tohumlu bezelye ile tozlaştırılmasıyla oluşacak F<sub>2</sub> dölündeki fenotip oranı ne olur? (Sarı tohumluluk yeşil tohumluluk üzerine baskındır.)

- A) 1 : 1      B) 1 : 2  
C) 1 : 3      D) 1 : 2 : 1

3. 2n = AaBbCCDdee genotipli bir hücrenin mayoz bölünme yapmasıyla oluşacak gamet çeşit sayısı aşağıdakilerden hangisinde verilmiştir?

- A) 4      B) 8      C) 16      D) 32

4. Eksik baskınlıkla ilgili olarak,

- I. Bir karakteri belirleyen genlerin birbiri üzerine baskınlık kuramaması sonucu oluşur.  
II. Oluşan fenotip çeşit sayısı daima genotip çeşit sayısından fazla olur.  
III. Sadece bitkilerde gözlenebilen bir durumdur.

**verilenlerden hangileri doğrudur?**

- A) Yalnız I      B) I ve II  
C) I ve III      D) II ve III

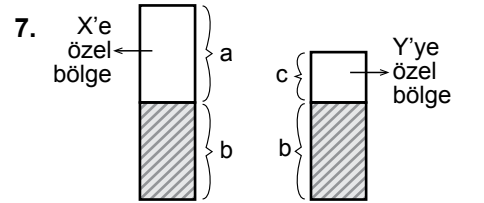
Kan grubu fenotipi	A	B	AB	0
Alyuvardaki Antijen	I		II	
Plazmadaki Antikor		III		IV

5. Kan grupları ile ilgili verilen tablo incelendiğinde I, II, III ve IV için aşağıdakilerden hangisi yanlıştır?

- A) I, A antijenidir.  
B) II' de iki farklı antijen bulunur.  
C) III, Anti – B' dir.  
D) IV' te iki farklı antikor bulunur.

6. Heterozigot A Rh + kan grubu bir kadınla, heterozigot B Rh – kan grubu bir erkeğin evliliğinden 0 Rh – kan grubu bir kız çocuğunun olma olasılığı nedir?

- A) 1 / 8      B) 1 / 16  
C) 1 / 32      D) 3 / 32



**Verilen şekil incelendiğinde a, b ve c için aşağıdakilerden hangisi yanlıştır?**

- A) Renk körlüğü geni a'da taşınır.  
B) b'deki özelliklerin kadınlarda görülme olasılığı yüksektir.  
C) c'deki özellikler sadece erkeklerde ortaya çıkar  
D) Balık pulluluk ve yapışık parmaklık c'deki genlerle taşınır.

8. Renk körlüğü genini taşıyan sağlıklı bir kadınla, renk körü bir erkeğin evliliğinden doğacak çocuklarla ilgili aşağıdakilerden hangisi yanlış olur?

- A) Sağlıklı erkek çocukları olabilir.  
B) Renk körü erkek çocukları olabilir.  
C) Renk körü kız çocuğu olmaz.  
D) Taşıyıcı kız çocukları olabilir.



## 2. OTURUM

9. I. 22 + X  
II. 22 + Y  
III. 22 + XX  
IV. 22 + 0

Verilen gametlerden hangilerinin döllenmesiyle Tripl – X sendromu ortaya çıkar?

- A) I ve III      B) II ve III  
C) II ve IV      D) III ve IV

10. Down sendromlu bireylerle ilgili olarak verilenlerden hangisi yanlış bir açıklamadır?

- A) 47 kromozomludurlar.  
B) Erkekleri 45 + XX formülü ile gösterilir.  
C) Otozomal ayrılmama sonucu oluşur.  
D) Eşey organları tam gelişmediği için kısırdırlar.

11. Canlılardaki varyasyonlara,

- I. Mutasyon  
II. Alellerin bağımsız ayrışımı  
III. Modifikasyon

verilenlerden hangileri neden olabilir?

- A) Yalnız II      B) Yalnız III  
C) I ve II      D) I, II ve III

12. Aşağıda verilenlerden hangisi biyoteknolojik uygulamaların olumsuz yönlerinden biri olarak değerlendirilebilir?

- A) Çevre koşullarına daha dirençli bitkilerin oluşturulması  
B) Kalite ve verimi yüksek olan bitkilerin üretilmesi  
C) Genetiği değiştirilmiş organizmaların tükettiğimiz besinlerin arasına girebilmesi  
D) Kanseri, felç gibi hastalıklara çözüm getirebilmesi

13. Ekosistemin bileşenleri düşünüldüğünde aşağıdakilerden hangisi abiyotik faktörler grubundadır?

- A) Üreticiler      B) Ayrıştırıcılar  
C) Tüketiciler      D) Mineraller

14. Gen klonlama çalışması sırasında,

- I. Rekombinant DNA çoğaltılır.  
II. Restriksiyon enzimi ile gen bölümü kesilir.  
III. Genin yeri tespit edilir.  
IV. Ligaz enzimi ile gen, plazmite yapıştırılır.

Olayları aşağıda verilen hangi sıraya göre uygulanır?

- A) I – III – IV – II  
B) II – I – III – IV  
C) III – II – IV – I  
D) IV – II – I – III

15. Bir popülasyonu oluşturan bireyler başka bir popülasyonla aynı habitatı paylaşabilir.

Buna göre aynı habitatteki popülasyonların tümü aşağıdaki terimlerden hangisi ile tanımlanır?

- A) Komünite      B) Ekosistem  
C) Biyosfer      D) Biyom

16. Aşağıdakilerden hangisi nötr gün bitkisidir?

- A) Arpa      B) Domates  
C) Patates      D) Turp

17. Aşağıdaki iklim kuşaklarından hangisi, ülkemizde coğrafi koşullara bağlı olarak görülmez?

- A) Akdeniz iklimi  
B) Karasal iklim  
C) Marmara iklimi  
D) Çöl iklimi

18. Mineral bakımından zengin, bitki ve hayvan kalıntıları içeren, bitki gelişmesine en uygun olan toprak çeşidi aşağıdakilerden hangisidir?

- A) Humuslu toprak  
B) Kumlu toprak  
C) Kireçli toprak  
D) Killi toprak

19. Toprağa karışmış bazı organik besinleri, hücre dışına salgıladıkları sindirim enzimleri ile parçalayarak inorganik bileşiklere dönüştüren canlılar aşağıdakilerden hangisidir?

- A) Ayrıştırıcılar  
B) Üreticiler  
C) Tüketiciler  
D) Etçiller

20. Aşağıdaki hayvansal parazitlerden hangisi iç parazit (endoparazit) tir?

- A) Bit  
B) Pire  
C) Tenya  
D) Tahtakurusu

(451) ÇAĞ.TÜRK VE DÜN.TAR. – 1

1. Aşağıdaki komutanlardan hangisi Basmacı Hareketi'ne katılmıştır?

- A) Rauf Orbay  
B) Enver Paşa  
C) Fevzi Çakmak  
D) Kâzım Karabekir

2. I. Dünya Savaşı'ndan sonra aşağıdaki hangi devletlerde totaliter rejimler iş başına gelmiştir?

- A) ABD ve İtalya  
B) Fransa ve İran  
C) İtalya ve Almanya  
D) Fransa ve İngiltere

3. Aşağıdakilerden hangisi, I. Dünya Savaşı sonunda yenen devletlerin yenilen devletlerle imzaladıkları barış antlaşmalarının ortak özelliklerinden biri değildir?

- A) Avrupa'da kalıcı barışı sağlamışlardır.  
B) Büyük devletlerin çıkarlarını korumaya yöneliktirler.  
C) Yenilen devletlere ağır ekonomik yükümlülükler getirmişlerdir.  
D) Yenilen devletlerin topraklarının küçülmesine neden olmuşlardır.

## 2. OTURUM

4. Paris Barış Konferansı'nda Milletler Cemiyetinin kurulmasına öncülük eden devlet, aşağıdakilerden hangisidir?

- A) Rusya B) Fransa  
C) İngiltere D) ABD

5. Bolşeviklerin güçlenmesi için 20. yüzyılın ilk çeyreğinde "Yeni Ekonomik Politika" (Novaya Ekonomiçeskaya Politika - NEP) dönemini başlatan Rus lider, aşağıdakilerden hangisidir?

- A) Lenin  
B) Stalin  
C) Kruşçev  
D) Çar II. Nikola

6. Locarno Antlaşması ile aşağıdaki devletlerden hangisi uluslararası iş birliğine yeniden katılmıştır?

- A) İtalya B) Almanya  
C) İspanya D) Hollanda

7. • İtalya'da faşist bir parti kuran Mussolini'nin gizli örgüt mensuplarına verilen isimdir.  
• 1922 yılında Napoli'den Roma'ya yürüyerek mevcut hükümeti devirmiş ve Mussolini'nin iktidara gelmesini sağlamışlardır.

Hakkında kısa bilgi verilen örgüt, aşağıdakilerden hangisidir?

- A) Naziler  
B) Basmacılar  
C) Bolşevikler  
D) Kara Gömlekliler

8. Atatürk Dönemi'nde Türkiye en çok aşağıdaki hangi devlet ile yakın ilişkiler kurmaya çalışmıştır?

- A) ABD B) Fransa  
C) İngiltere D) Sovyet Rusya

9. Aşağıdaki devletlerden hangisi "Müttefik" grubunda yer alır?

- A) SSCB B) İtalya  
C) Almanya D) Japonya

10. Almanya, 13 Mart 1938'de aşağıdaki ülkelerden hangisiyle birleştiğini ilan ederek bu ülkeyi ilhak etmiştir?

- A) Belçika B) Polonya  
C) Avusturya D) Çekoslovakya

11. Aşağıdakilerden hangisi II. Dünya Savaşı'nın çıkacağından önceden görülen belirtilerinden biri değildir?

- A) Sovyetler Birliği'nin Türkiye'den Boğazları istemesi  
B) Almanya'nın Ren Bölgesi'ne asker göndermesi  
C) Japonya'nın Mançurya'ya saldırması  
D) İtalya'nın Habeşistan'ı işgal etmesi

12. Almanya, aşağıdaki konferanslardan hangisinde dört işgal bölgesine ayrılmış ve bu bölgeler Amerika Birleşik Devletleri, Birleşik Krallık (İngiltere), Fransa ve Sovyetler Birliği'nin yönetimine bırakılmıştır?

- A) Tahran Konferansı  
B) Moskova Konferansı  
C) Potsdam Konferansı  
D) Kazablanka Konferansı

13. "Tokyo Körfezi'nde demirli - - - - Zırhlısı'nda yapılan görüşmeler sonrasında 2 Eylül 1945'te Başbakan Suzuki, Japonya'nın yönetimini General Mac Arthur'a devrini öngören antlaşmayı imzalamıştır."

Verilen cümlede boş bırakılan yere, aşağıdakilerden hangisi yazılmalıdır?

- A) Bouvet B) Missouri  
C) Maryland D) New Jersey

14. Aşağıda ikili verilen devletlerden hangisi II. Dünya Savaşı sonunda dünya gücü olarak ortaya çıkmıştır?

- A) İtalya - Almanya  
B) Fransa - İngiltere  
C) Almanya - Japonya  
D) ABD - Sovyet Rusya

15. Aşağıdakilerden hangisi komünist ülkeler arasında iş birliği ve dayanışmayı sağlamak için kurulmuştur?

- A) NATO B) AET  
C) COMECON D) CENTO

16. Aşağıdakilerden hangisi ABD'nin, SSCB'nin yayılmacı politikasını önlemek amacıyla aldığı tedbirlerden biridir?

- A) Molotof Planı  
B) Marshall Planı  
C) Varşova Paketi  
D) Kominform

17. Aşağıdakilerden hangisi Batı Bloku'nun, Doğu Bloku'na karşı kurmuş olduğu bir savunma ittifakıdır?

- A) NATO  
B) ASEAN  
C) Varşova Paketi  
D) Afrika Birliği Teşkilatı

18. Aşağıdakilerden hangisi 24 Şubat 1955'te kurulan Bağdat Paketi'na üye devletlerden biri değildir?

- A) SSCB B) Pakistan  
C) İran D) İngiltere

19. 28 Şubat 1953'te Türkiye, Yugoslavya ve Yunanistan arasında imzalanan pakt, aşağıdakilerden hangisidir?

- A) Kellogg Paketi  
B) Sadabat Paketi  
C) Balkan Paketi  
D) Bağdat Paketi

20. Aşağıdakilerden hangisi Demokrat Parti'nin kurucularından değildir?

- A) Adnan Menderes  
B) İsmet İnönü  
C) Celal Bayar  
D) Fuat Köprülü

## 2. OTURUM

(455) DEM. ve İNSAN HAK. – 1

1. • Tüm insanların, insan olmaları bakımından birbirleriyle aynı değerde olması  
• Hukuk kurallarının kişilere belli yönde davranmaya izin vermesi, bir şeyleri istemeye yetkili kılması  
• Başkasına zarar vermeden kişinin dilediğini yapabilmesi

**Yukarıda tanımları verilen kavramlar hangisinde sırasıyla doğru olarak verilmiştir?**

- A) Özgürlük – Eşitlik – Hak  
B) Hak – Özgürlük – Eşitlik  
C) Özgürlük – Hak – Eşitlik  
D) Eşitlik – Hak – Özgürlük

2. **Pozitif hukuk normları en üstte, genel ve soyut olandan özel ve somut olana doğru hiyerarşik olarak sıralandığında bu normların en üst basamağında aşağıdakilerden hangisi yer alır?**

- A) Anayasa      B) Kanun  
C) Tüzük      D) Yönetmelik

3. **Kişilerin eğitim ve öğrenim hakkı aşağıda verilen hangi temel haklardandır?**

- A) Koruyucu haklar  
B) Yaşama hakkı  
C) İsteme hakları  
D) Sağlık hakkı

4. **Aşağıdaki sistemlerden hangisi hukuk devletini simgeler?**

- A) Irk üstünlüğüne bağlı devlet  
B) Adalete dayalı devlet  
C) Bir sınıfın üstünlüğüne bağlı devlet  
D) Kanunların yöneticilere ayrıcalık tanıdığı devlet

5. **Aşağıdakilerden hangisi devletin varlığı için gerekli olan unsurlardan biri değildir?**

- A) Halk      B) Ülke  
C) Siyasi parti      D) Egemenlik

6. **Aşağıdakilerden hangisi sosyal devlet olmanın öncelikli gereklindedir?**

- A) Kişilere inançlarından dolayı baskı yapılmaması  
B) Devlet faaliyetlerinin belirliliği  
C) İdarenin yargısal denetimi  
D) Gelir adaleti ve eşitlik

7. **Temel hak ve özgürlükleri güvenceye almakla birlikte önceliği devlete veren, temel hak ve özgürlüklerin kullanılmasında ilgilili kısıtlayıcı tedbirlere başvurabilen ve 1982 Anayasası ile şekillenen devlet anlayışı hangisidir?**

- A) İnsan haklarına saygılı devlet anlayışı  
B) Aristokratik devlet anlayışı  
C) Monarşik devlet anlayışı  
D) Laik devlet anlayışı

8. **Ülkemizde uygulanmakta olan seçim sistemi ülke barajı aşağıdakilerden hangisinde verilmiştir?**

- A) % 8      B) % 10  
C) % 5      D) % 3

9. **Aşağıdakilerden hangisi demokratik siyasal sistemin temel ilkelerindedir?**

- A) Yasalar karşısında bazı bireylerin ayrıcalıklı olması  
B) Devletin başlı başına bir amaç olması  
C) Halk egemenliğine dayanması  
D) Kuvvetler birliğini esas alması

10. **Aşağıdakilerden hangisi siyasi partilerin işlevlerinden değildir?**

- A) İktidarı eleştirip denetlemesi  
B) Ülkeyi yönetecek lider kadrolarını eğitmesi  
C) Halk ve iktidar arasında aracılık yapması  
D) İktidarda bulunanların başına buyruk hareket etmelerini sağlaması

11. **Kişileri devlete, topluma karşı koruyan hak ve özgürlüklere koruyucu haklar denir.**

**Aşağıdakilerden hangisi koruyucu haklardandır?**

- A) Özel hayatın gizliliği  
B) Eğitim ve öğrenim hakkı  
C) Seçme ve seçilme hakları  
D) Kamu hizmetlerine girme hakkı

12. **Normlar hiyerarşisine göre Anayasadan sonra aşağıdakilerden hangisi gelir?**

- A) Yönetmelik      B) Kanun  
C) Tüzük      D) Genelge

13. **Aşağıdakilerden hangisi devletin varlığı için zorunlu bir öğe değildir?**

- A) Halk  
B) Ülke  
C) Egemenlik  
D) Sivil toplum kuruluşları

14. I. Devletin sosyal denge ve barışı sağlaması  
II. Devletin hukuki düzenlemelerini dini kurallara göre yapması  
III. Din, vicdan, kanaat ve ibadet hürriyetlerinin sağlanması

**Verilenlerden hangileri laikliğin özelliklerindedir?**

- A) Yalnız I      B) Yalnız II  
C) Yalnız III      D) II ve III

15. **Aşağıdakilerden hangisi Çoğunluçu demokrasinin özelliklerindedir?**

- A) Tek tip toplum oluşturması  
B) Kültürel tekelciliği benimsemesi  
C) Herkesi tek tip davranmaya zorlaması  
D) Çoğunluğun azınlıkta kalanların taleplerini göz ardı etmesi

## 2. OTURUM

### (461) EKONOMİ – 1

16. • Meclis araştırması,  
• Genel görüşme,  
• Gensoru,  
• Meclis soruşturması,

**Verilen idare üzerinde denetim yolları, aşağıdakilerden hangisi ile gerçekleşir?**

- A) Türkiye Büyük Millet Meclisi  
B) Askeri Yargıtay  
C) Devlet Denetleme Kurulu  
D) Yüksek Denetleme Kurulu

17. 1961 Anayasa'sının öngördüğü, İnsan haklarını kayıtsız ve koşulsuz bir biçimde gerçekleştirmeye yönelik, kişi hak ve özgürlüklerinin önündeki bütün engelleri kaldırmayı kendine ödev edinen devlettir.

**Verilen açıklama aşağıdakilerden hangisine aittir?**

- A) Laiklik ilkesine  
B) Milliyetçilik ilkesine  
C) Kuvvetler ayrımı ilkesine  
D) İnsan haklarına dayalı devlet anlayışına

18. **Aşağıdakilerden hangisi Batıda Rönesans döneminde ortaya çıkan genel düşüncelerden biri değildir?**

- A) Ulus devlet düşüncesi  
B) Liberal devlet anlayışı  
C) Doğal hukuk düşüncesi  
D) Dine dayalı insan ve doğa anlayışı

19. **Aşağıda seçimlerle ilgili verilen uygulamalardan hangisi, demokratik toplum düzeninin kurulmasını zorlaştıran bir unsurdur?**

- A) Genel oy      B) Kısıtlı oy  
C) Gizli oy      D) Açık sayım

20. **Kuvvetler ayrımı aşağıdaki erklerden hangisi ile ilgili değildir?**

- A) Yasama      B) Yürütme  
C) Ordu      D) Yargı

1. **Ülkelerarası millî gelirin karşılaştırılması hangi para birimi ile yapılmaktadır?**

- A) İngiliz Sterlini  
B) Rus Rublesi  
C) Japon Yeni  
D) ABD Doları

2. **Üretim faktörlerinden emeğin özelliklerine göre aşağıdakilerden hangisi yanlıştır?**

- A) Zevk için yapılan faaliyetler emek kabul edilmez.  
B) Üretimde kullanılan hayvan gücü emek kabul edilir.  
C) Makinelerin üretimdeki faaliyetleri emek kabul edilmez.  
D) İnsanların mal ve hizmet üretmek için yaptıkları faaliyetler emek kabul edilir.

3. **Aşağıdakilerden hangisi bir ülkenin ekonomi politikasının başlıca hedeflerinden olamaz?**

- A) Tam istihdam sağlamak  
B) Ekonomik dengeyi sağlamak  
C) Büyüme ve kalkınmayı gerçekleştirmek  
D) Yüksek enflasyonu gerçekleştirmek

4. **Doğa, toprak yapısı ve iklim etkeniyle tarım ve sanayi üretimini doğrudan etkiler.**

**Bu açıklamaya göre pamuğun yeterli ölçüde üretildiği bölgelerde hangi endüstri gelişmiştir?**

- A) Otomotiv      B) Şeker  
C) Tekstil      D) Demir

5. **Aşağıdakilerden hangisi paranın işlevlerinden biridir?**

- A) Değişim aracı olması  
B) Değerini koruması  
C) Bölünebilir olması  
D) Güvenilir olması

6. **Aşağıdakilerden hangisi mal ve hizmet fiyatının oluşumunda doğrudan etkilidir?**

- A) Arz ve talep  
B) Kalite ve marka  
C) Belirli bir piyasa  
D) Satın alma gücü

7. **İşçilerin çalışmaları karşılığı aldıkları para miktarı hangi ücreti oluşturur?**

- A) Reel ücreti      B) Aynı ücreti  
C) Akort ücreti      D) Nominal ücreti

8. **Gelirin özelliklerine göre aşağıdakilerden hangisi ekonomide gelir kabul edilmez?**

- A) Ücret      B) Faiz  
C) Bağış      D) Kâr

9. **Aşağıdakilerden hangisi üretim faaliyetidir?**

- A) Uçak, tren, otobüs gibi şehirlerarası araçlarla seyahat edilmesi  
B) Kömürün yakılarak termik santralinde elektrik enerjisi elde edilmesi  
C) Seyahat acentesi ile turistik geziye çıkılması  
D) Evde ısınmak amacıyla doğal gaz yakılması

10. **İhtiyaçları karşılanmalarındaki şiddet derecesine göre sınıflandırdığımızda, aşağıdakilerden hangisi lüks ihtiyaçlara örnek olur?**

- A) Su      B) Ekmek  
C) Giyecek      D) Otomobil

11. **Ekonomi biliminin tanımı kapsamında yapılan açıklamalardan hangisi doğrudur?**

- A) İnsanların ihtiyaçları sınırlıdır.  
B) İhtiyaçları karşılayan araçlar (mallar) sınırsızdır.  
C) İhtiyaçlar mallardan çok daha fazladır.  
D) Ekonominin temeli bolluk olayıdır.

## 2. OTURUM

12. Aşağıdakilerden hangisi bazı ihtiyaçlar arasında ikame olayının gelişmesine bir örnek olarak gösterilemez?

- A) Arpa ve çavdar karışımı ekmeğin, buğday ekmeğinin yerini alması
- B) Et, sebze ve süt ihtiyaçlarının, şeker ihtiyacının yerine geçmesi
- C) Sentetik kumaşların, yünün ve pamuğun yerini alması
- D) Pekmezin, şekerin yerine konması

13. Aşağıda verilenlerden hangisi üretimin başlıca faktörleri arasında yer almaz?

- A) Sermaye
- B) Girişimci
- C) Piyasa
- D) İş gücü

14. Sanayide kumaşın hazır elbise hâline getirilerek faydasının artırılması aşağıda verilen üretim faaliyetlerinden hangisi ile ilgilidir?

- A) Şekil faydası yaratan üretim faaliyetleri
- B) Mekân faydası yaratan üretim faaliyetleri
- C) Zaman faydası meydana getiren üretim faaliyetleri
- D) Mülkiyet faydası meydana getiren üretim faaliyetleri

15. Doğruluğu tartışmasız kabul edilen bazı temel varsayımlardan hareket ederek bunların tek olaylara uygulanmasını isteyen bir ekonomist ekonomi biliminde hangi yöntemin uygulanmasını istemektedir?

- A) Tümevarım yöntemi
- B) Tümdengelim yöntemi
- C) Karma yöntem
- D) Tartışma yöntemi

16. Üretime toprağı ile katılan bir insanın, elde edilen gelirden aldığı paya ne denir?

- A) Rant
- B) Ücret
- C) Faiz
- D) Kâr

17. Aşağıdakilerden hangisi kültürel mal olarak kabul edilir?

- A) Televizyon
- B) Otomobil
- C) Konut
- D) Ekmek

18. Aşağıdakilerden hangisi kolektif şirket ortağının sorumluluklarından biri değildir?

- A) Sınırlanmamış olan bir sorumluluk vardır.
- B) Bütün servetiyle sorumludur.
- C) Şirketin çıkarları için çok çaba sarfeder.
- D) Şirketi genişletme cesaretine sahiptirler.

19. Aşağıdakilerden hangisi sermayeyi oluşturan öğelerden biri değildir?

- A) Önceden üretilmişlerdir.
- B) Yeni bir üretimde kullanılırlar.
- C) Doğa ve emeğin birleşmesinden oluşmuştur.
- D) İhtiyaç ve faydanın birleşmesinden oluşmuştur.

20. Bir toplumda belirli bir sürede üretilen malların üretime katkısında bulunan etkenlerin sahipleri arasında dağılımını ifade eden klasik sınıflama türü aşağıdakilerden hangisidir?

- A) Üretim
- B) İnkisam
- C) Değişim
- D) Tüketim

(462) EKONOMİ – 2

1. Bir işletmenin ihtiyaç duyduğu ham madde için kullanacağı sermaye türü aşağıdakilerden hangisidir?

- A) Sınai sermaye
- B) Zirai sermaye
- C) Ticari sermaye
- D) Değişmeyen sermaye

2. Kuruluşun, mevcut alacakları toplamı ile borçları arasındaki farkın, sermaye türü olarak ifade edilişi aşağıdakilerden hangisidir?

- A) Ekonomik anlamda sermaye
- B) Hukuksal anlamda sermaye
- C) Mali yönden sermaye
- D) Muhasebe tekniği yönünden sermaye

3. Aşağıdakilerden hangisi verimliliğe etki eden genel etkenler içerisinde yer almaz?

- A) İşletmelerin kuruluş yeri
- B) İş yerinin durumu ve işe gidip gelme
- C) İşletmenin organizasyonu
- D) İşletmedeki tekniğin yenileştirilmesi

4. Aşağıda verilenlerden hangisi girişimcinin özelliklerinden biri değildir?

- A) Kâr amacı güder.
- B) Mal ve hizmet üretir.
- C) Üretime katılan sermaye için ücret öder.
- D) Akılcı bir şekilde üretim faktörlerini sağlar.

5. "Yeterli bir kârın sağlanması" açıklaması, öncelikli olarak hangi başlık altında yer almalıdır?

- A) Girişimin İşlevleri
- B) Girişimin Amaçları
- C) Girişimin Sosyal Rolü
- D) Girişimin Ekonomik Rolü

6. I. Ortaklar sınırlı sorumludurlar.  
II. Şirketin sorumluluğu sınırsızdır.  
III. Sermayenin göstergesi obligasyondur.  
IV. Sermaye belirli sayıda hisselerle ayrılmıştır.

Anonim şirketler ile ilgili yukarıda verilenlerden doğru olanlar, hangisinde birlikte verilmiştir?

- A) I ve II
- B) II ve III
- C) I ve IV
- D) III ve IV

## 2. OTURUM

7. Aşağıdakilerden hangisi İktisadi Devlet Kuruluşlarından birisi değildir?

- A) Devlet Malzeme Ofisi
- B) T.C. Ziraat Bankası
- C) Et ve Balık Kurumu
- D) ÇAY-KUR

8. Aşağıdakilerden hangisi müessesese değildir?

- A) Van Deri ve Kundura Sanayii
- B) Ergani Bakır İşletmeleri
- C) Garp Linyitleri İşletmesi
- D) Et ve Balık Kurumu

9. Gelir ile servet karşılaştırıldığında aşağıdakilerden hangisi gelirin bir özelliğidir?

- A) Statikliği
- B) Dinamikliği
- C) Belirli bir andaki durumu
- D) Tasarruf edilen değerlerin bütünlüğü

10. Aşağıdakilerden hangisi millî gelirin ifade ediliş şekillerinden biri değildir?

- A) Döviz üzerinden millî gelirin ifadesi
- B) Yurt içi gelir olarak millî gelirin ifadesi
- C) Millî gelirin sabit fiyatlarla ifade edilmesi
- D) Millî gelirin cari piyasa fiyatlarıyla ifadesi

11. Aşağıdakilerden hangisi millî gelirin fonksiyonel dağılımı arasında yer almaz?

- A) Faiz
- B) Ücret
- C) Rant
- D) Servet

12. Bir ülkede gelir dağılımının lorenz eğrileriyle adil ve adil olmayan dağılım şeklinde belirlenmesi, gelir dağılımının hangi yönden incelendiğini göstermektedir?

- A) Meslekler
- B) Sektörler
- C) Sosyal kesimler
- D) Nüfus dilimleri

13. Aşağıdakilerden hangisi millî gelir hesaplama yöntemlerinden biri değildir?

- A) Harcama sistemi
- B) Üretim sistemi
- C) Gelir sistemi
- D) Vergi sistemi

14. Belirli bir yılın fiyatları üzerinden hesaplanan millî gelire ne denir?

- A) Gayrisafi millî hasıla
- B) Reel millî gelir
- C) Yurt içi hasıla
- D) Safi millî gelir

15. Üretim faaliyeti sonucunda girişimcinin payı olan gelir aşağıdakilerden hangisidir?

- A) Ücret
- B) Faiz
- C) Kâr
- D) Rant

16. Millî gelirin üretim faktörlerinin, üretimden aldıkları paylara göre dağılımına ne denir?

- A) Fonksiyonel dağılım
- B) Sektörel dağılım
- C) Bölgesel dağılım
- D) Kişisel dağılım

17. Fiyatlar genel seviyesinin yükselmesine ne denir?

- A) Arz
- B) Talep
- C) Enflasyon
- D) Deflasyon

18. Malların insanlar arasında el değiştirmesine aracılık eden ve herkesçe kabul edilen ortak bir ölçme birimi işlevi gören ödeme aracına ne denir?

- A) Para
- B) Döviz
- C) Gümüş
- D) Kredi

19. Aşağıdakilerden hangisi çevre kirliliğine neden olan etkenlerdendir?

- A) Çevre eğitiminin yaygınlaştırılması
- B) Altyapı işlerinin yapılması
- C) Yeşil alanların artması
- D) Nüfusun aşırı artması

20. Aşağıdakilerden hangisi ekonomi politikasının başlıca hedeflerindedir?

- A) Dış ödemeler dengesini sağlamak
- B) Tarım sektörünü desteklemek
- C) İhracatı desteklemek
- D) Üretimi yönlendirmek

(476) İŞLETME – 1

1. Aşağıda yapılan açıklamalardan hangisi, bir işletmenin varlığını devam ettirme sürecinde uzun vadede iflasla karşı karşıya kalabileceğini göstermektedir?

- A) İşletmenin kârlılığı tercih etmesi
- B) Topluma hizmet etmeye ağırlık vermesi
- C) Tüketicilerin istek ve ihtiyaçlarına cevap vermesi
- D) Kaliteli mal ve hizmet üretmesi

2. Aşağıdakilerden hangisi, tacir olabilmenin şartlarından birisi değildir?

- A) Ticari bir işletmenin var olması
- B) Ticari bir işletmenin kendine ait olması
- C) Ticari bir işletmenin işletilmesi
- D) Ticari bir işletmenin kendi adına işletilmesi

3. Lider ile yöneticiyi birbirinden ayıran özellik, hangi seçenekte verilmiştir?

- A) Lider, işi doğru yapar, yönetici doğru işi yapar.
- B) Yönetici koruyucudur, lider geliştiricidir.
- C) Lider denetime güvenir, yönetici insana güvenir.
- D) Yönetici yenilik getirir, lider kuralları izler ve uygular.

4. “Rekabet edebilme duygusu” ihtiyaçlar hiyerarşisinin hangi sınıflaması içinde yer alır?

- A) Statü ve saygınlık ihtiyacı
- B) Kendini geliştirme ihtiyacı
- C) Ait olma ihtiyacı
- D) Güvenlik ihtiyacı

## 2. OTURUM

5. I. Giyinmek  
II. Spor yapmak  
III. Yemek yemek  
IV. Kitap okumak  
V. Su içmek

**Yukarıda verilen ihtiyaçlardan birincil olanların tamamı hangi seçenekte verilmiştir?**

- A) I ve II      B) II, III ve IV  
C) I, III ve V      D) III, IV ve V

6. Verimlilik ilkelerinden "analitik ilkesi"ne ait doğru açıklama hangi seçenekte verilmiştir?

- A) Girdi seçimini doğru yapmak  
B) Kaynakları en ucuz, en az kullanmak  
C) Girdilerin fayda-maliyet analizini yapmak  
D) Kaynakları zamanında ve yerinde kullanmak

7. Üretim faktörlerinin ekonomiden aldıkları paylar hangi seçenekte doğru olarak gösterilmiştir?

<u>Üretim faktörleri</u>	<u>Aldığı pay</u>
A) Emek	Kâr
B) Girişimci	Faiz
C) Sermaye	Ücret
D) Doğa	Rant

8. İnşaat alanlarında işe başlatılan sigortalıların Sosyal Güvenlik Kurumuna bildirimini ne kadar süre içerisinde yapılmalıdır?

- A) İşe başlatılmadan önce  
B) İşe başlatıldığı gün  
C) 10 gün içinde  
D) 1 ay içinde

9. Amacı; teknik engelleri kaldırarak, yeni piyasalara ve ekonomik gelişmelere öncülük etmek ve dünya ticaretini kolaylaştırmak olan uluslararası standart kuruluşu aşağıdakilerden hangisidir?

- A) Avrupa Uyumluk  
B) Uluslararası Standardizasyon Organizasyonu  
C) Uluslararası Telekomünikasyon Birliği  
D) Uluslararası Elektronik Komisyonu

10. Aşağıda verilenlerden hangisi işletmenin özel amaçlarından biridir?

- A) Kâr elde etmek  
B) Toplumla hizmet etmek  
C) İşletmenin varlığını devam ettirmek  
D) Uzun vadeli büyümeyi hedef hâline getirmek

11. I. Üretim  
II. Fayda  
III. Tüketici  
IV. Emek  
V. Doğa

**Mal ve hizmet üretmek için üretim faktörlerini bir araya getirmek isteyen bir girişimci yukarıda verilenlerden hangilerine ihtiyaç duyar?**

- A) I ve II      B) I ve III  
C) I, II ve III      D) IV ve V

12. Bir iktisadi Devlet Teşekkülü olan Devlet Malzeme Ofisi aşağıda verilen bakanlıklardan hangisine bağlıdır?

- A) Maliye Bakanlığı  
B) Millî Savunma Bakanlığı  
C) Gıda, Tarım ve Hayvancılık Bakanlığı  
D) Ulaştırma, Denizcilik ve Haberleşme Bakanlığı

13. Yabancı sermayeli kuruluş olarak Bursa ilimizde kurulan ve sebze sosları, hardal, bulyon ve sebze çorbaları üreten Nestle Türkiye Gıda Sanayi AŞ. adlı işletme hangi ülkeye aittir?

- A) Japonya      B) ABD  
C) İsviçre      D) İngiltere

14. Sermaye şirketlerinin üstünlüklerine yönelik verilen açıklamalardan hangisi yanlıştır?

- A) Yönetim etkindir.  
B) Büyüme imkânları fazladır.  
C) Kredi bulma imkânları fazladır.  
D) Ortaklığın süresi zamanla sınırlandırılmıştır.

15. Anonim şirketin kuruluşu için en az kaç gerçek veya tüzel kişi gerekir?

- A) 3      B) 5      C) 7      D) 10

16. Şahıs ve sermaye şirketleri arasındaki farklar hangi seçenekte yanlış olarak verilmiştir?

	<u>Şahıs Şirketleri</u>	<u>Sermaye Şirketleri</u>
A)	Sözleşme oy birliği ile değiştirilebilir.	Sözleşme oy çokluğu ile değiştirilebilir.
B)	Sermaye paylara bölünebilir.	Sermaye paylara bölünemez.
C)	Ortaklığın devri güçtür.	Ortaklığın devri kolaydır.
D)	Eşit oy hakkı vardır.	Oy hakkı sermaye payı ile orantılıdır.

17. Bir işletmenin kuruluş yerinde yapılacak iş gücü değerlendirmesi ile ilgili aşağıdakilerden hangisi önemsizdir?

- A) İş gücünün miktarı  
B) İş gücünün niteliği  
C) İş gücünün maliyeti  
D) İş gücünün yönetimi

18. Bir işletmenin kuruluş işlemleri ile ilgili aşağıdakilerden hangisi işletmenin belediyeye karşı sorumluluklarından biri değildir?

- A) İş yeri açma ve çalışma ruhsatı alma  
B) Hafta sonu çalışma ruhsatı alma  
C) İşe başlama bildirimini verme  
D) Çevre temizlik vergisi ödeme

19. Tüzel kişilerin meslek odalarına kayıt olabilmeleri için aşağıdakilerden hangisi gerekli bir evrak değildir?

- A) Fotoğraf  
B) İlan gazetesi  
C) İmza sirküleri  
D) Ana sözleşme

## 2. OTURUM

20. Mal ve hizmet arasındaki farklara yönelik yapılan açıklamalardan hangisi yanlıştır?

Mallar	Hizmetler
A) Devredilebilir.	Devredilemez.
B) Müşteri sürecin bir parçasıdır.	Müşteri süreçten ayrıdır.
C) Sermaye yoğunudur.	Emek yoğunudur.
D) Tekniktir.	İnsan odaklıdır.

### (477) İŞLETME – 2

1. Para, fon yada sermaye, aşağıdaki kavramlardan hangisi ile ifade edilir?

- A) Finans
- B) Finansman
- C) Finansal yönetim
- D) Finansman fonksiyonu

2. Neo-Klasik Yönetim Teorisi, aşağıda verilen kavramlardan hangisi üzerinde durmaz?

- A) Tatmin
- B) Motivasyon
- C) Kararlara katılma
- D) Hiyerarşik yapı

3. İşletme amaçlarının gerçekleştirilebilmesi için, işletmenin tüm birimlerinin ve çalışanların uyum içinde hareket etmesinin sağlanması, yönetim fonksiyonlarından hangisi ile ilgilidir?

- A) Denetim
- B) Yürütme
- C) Koordinasyon
- D) Organizasyon

4. Planlamanın işletmeye sağlayacağı faydalar düşünüldüğünde, aşağıdakilerden hangisi uygun bir açıklama değildir?

- A) İşletmenin etkin bir denetimden korunmasını sağlar.
- B) İşletme kaynaklarının verimli kullanılmasını sağlar.
- C) Yöneticilere geleceği tahmin etme yeteneği kazandırır.
- D) İşletmenin bölümleri arasındaki koordinasyonu sağlar.

5. Aşağıdakilerden hangisi yönetimin özelliklerine uygun bir açıklamadır?

- A) Yönetim bir yetki faaliyetidir.
- B) Yönetim tek kişi faaliyetidir.
- C) Yönetim tek yönlü bir faaliyettir.
- D) Yönetilenlerin karar verdiği bir süreçtir.

6. Bir işletmenin öz kaynaklarına yönelik yapılan açıklamalardan hangisi doğru değildir?

- A) Devamlı bir kaynak niteliği taşır.
- B) Ortaklarca konan fonlar öz kaynaklardır.
- C) Maddi olmayan kaynaklar şeklinde de olabilir.
- D) Bu kaynaklar, vadeli kaynaklardır.

7. Bir tüketicinin çay demlemek üzere çayı marketten satın alması, pazarlamanın faydalarından hangisi ile açıklanabilir?

- A) Yer faydası
- B) Şekil faydası
- C) Zaman faydası
- D) Mülkiyet faydası

8. Reklamın özelliklerine yönelik yapılan açıklamalardan hangisi yanlıştır?

- A) Reklam yapan kişi bellidir.
- B) Reklam kişisel bir sunuştur.
- C) Reklam için bir bedel ödenir.
- D) Reklam bir kitle iletişimidir.

9. Bazı işletmelerin, toptancı yerine acente veya komisyoncu vasıtasıyla perakendecilere, özellikle büyük perakendecilere ulaşmayı tercih etmeleri, hangi dağıtım kanalını kullanacaklarını göstermektedir?

- A) Üretici – Acente – Perakendeci – Tüketici
- B) Üretici – Toptancı – Perakendeci – Tüketici
- C) Üretici – Acente – Toptancı – Tüketici
- D) Üretici – Toptancı – Acente – Tüketici

10. Bir işletme ürünlerini tüketicilere doğrudan dağıtım yoluyla ulaştırıyorsa aşağıdakilerden hangisi oluşmuş olan uygun şartlardan birisidir?

- A) Üretim hızının tüketim hızından fazla olması
- B) Tüketici ya da müşteri sayısının fazla olması
- C) Birim fiyatının yüksek olması
- D) Üretim - tüketim noktaları arası mesafenin uzak olması

11. Aşağıdakilerden hangisi işletmelerin gelirleri artırmak ve giderleri azaltmak amacıyla aldıkları tedbirlerden birisi değildir?

- A) Üretim süresini artırmak
- B) Üretimde kaliteyi artırmak
- C) Seri üretim yapmak
- D) Girdileri uygun fiyattan almak

12. Stoklar belirli bir düzeye düştüğünde, önceden belirlenmiş miktarın sipariş edilmesi ve süreklilikli stok sayımının yapılması, hangi stok kontrol yönteminin kullanıldığını göstermektedir?

- A) Gözle kontrol yöntemi
- B) Sabit sipariş miktarı yöntemi
- C) Sabit sipariş süresi yöntemi
- D) Stoksuz malzeme yönetim sistemi

13. Tüketiciler bir malı veya hizmeti satın aldıklarında, bu mal veya hizmet ile ilgili davranışlarını, beğenilerini ve görüşlerini üretimin hangi temel ögesini esas alarak oluştururlar?

- A) Girdi
- B) Çıktı
- C) Geri Bildirim
- D) İşlem

14. Yapılan açıklamalardan hangisi, bir işletmede performans değerlendirmenin çalışanlar üzerindeki etkilerinden birine yönelik değildir?

- A) Yöneltilir.
- B) Motive eder.
- C) Yarıştırmır.
- D) İşletmeye olan güveni artırır.



## 2. OTURUM

15. Oryantasyon eğitiminde aşağıdaki bilgilerden hangisi verilmez?

- A) İşletmenin tanıtımı
- B) İşle ilgili bilgilerin aktarımı
- C) Personel haklarının açıklanması
- D) Amirlerin siyasi görüşleri

16. I- Aylık Ödeme  
II- Kıdem Tazminatı  
III- Mağduriyet Aylığı  
IV- İhbar Tazminatı

**İşletmelerin işten çıkardığı personeline yapacakları zorunlu ödemeler hangi seçenekte doğru olarak verilmiştir?**

- A) Yalnız I
- B) I ve II
- C) II ve IV
- D) III ve IV

17. İşletmelerin çevreye karşı sorumlulukları dikkate alındığında, bir işletmenin kuruluş yeri seçiminin doğru yapılmamasının ortaya çıkaracağı sonuçlara, aşağıdakilerden hangisi örnek olarak gösterilemez?

- A) Kentleşme yavaşlar.
- B) Tarım arazileri azalır.
- C) Doğal kaynaklar kirletilir.
- D) Sanayi belli bölgelerde toplanır.

18. Aşağıdakilerden hangisi, işletmeler faaliyetlerini sürdürürken çevrenin korunmasına yönelik alınması gerekli tedbirlerde bir eksiklik olduğunu göstermektedir?

- A) Mümkün olduğunca yenilenebilir kaynaklar kullanılmalı
- B) İşletme kurulduktan sonra çevre sorunları ile ilgilenmeli
- C) Zehirli ve kimyasal gazlar için fabrika bacalarına filtre takılmalı
- D) Eğitimler yoluyla çalışanlarında çevre sorumluluk bilinci geliştirmeli

19. Standardizasyon, sağladığı yararlar açısından düşünüldüğünde, öncelikli olarak hedef kitlesi aşağıdakilerden hangisidir?

- A) Üreticiler
- B) Tüketiciler
- C) Satıcılar
- D) Komisyoncular

20. Aşağıdakilerden hangisi işletmelerin topluma karşı sorumluluklarından biri değildir?

- A) Ekonomik sorumluluğu
- B) Hukuksal sorumluluğu
- C) Gönüllü sorumluluğu
- D) Rekabet etme sorumluluğu

### (479) MANTIK – 2

1. Aşağıdakilerden hangisi modern mantığın konularından değildir?

- A) Özdeşlik mantığı
- B) Kiplik mantığı
- C) Klasik mantık
- D) Varlık mantığı

2. Herhangi bir önermede yüklem "iki ad"a yüklenirse ikili yüklem adı verilir.

**Aşağıdakilerden hangisi ikili yüklemli bir önermedir?**

- A) Ali ile Ayşe kardeştir.
- B) Farabi düşünürdür.
- C) Şermin gazetecidir.
- D) 1, tek sayıdır.

3. Ali çalışandır (P) önermesi basit, Ali çalışkan değildir (-P) önermesi bileşik önermedir.

**Buna göre bir önermenin bileşik olması aşağıdakilerden hangisine bağlıdır?**

- A) Yargı bildirmesine
- B) Önermenin olumluluğuna
- C) Önerme eklemi almasına
- D) Sembol ile gösterilmesine

4. " $(p \vee q) \Rightarrow \neg(P \wedge q)$ " önermesinin ana eklemi hangisidir?

- A)  $\vee$
- B)  $\wedge$
- C)  $\neg$
- D)  $\Rightarrow$

5. "Yağmur yağar ise ürün bol olur" önermesinin önermeler mantığındaki sembolleştirilmiş biçimi aşağıdakilerden hangisidir?

- A)  $p \vee q$
- B)  $p \wedge q$
- C)  $p \vee \neg q$
- D)  $p \Rightarrow q$

6.  $p \Rightarrow q$

- D
- Y
- D
- D

yukarıda " $p \Rightarrow q$ " önermesinin doğruluk değeri verilmiştir.

**Buna göre " $\neg(p \Rightarrow q)$ " önermesinin doğruluk değeri tablosu aşağıdakilerden hangisidir?**

A)  $\neg(p \Rightarrow q)$  B)  $\neg(p \Rightarrow q)$

Y	D
D	Y
Y	D
Y	D

C)  $\neg(p \Rightarrow q)$  D)  $\neg(p \Rightarrow q)$

D	D
Y	D
Y	Y
Y	Y

7. Bir önerme, bütün yorumlamalarında en az bir doğru değerini almış ise o önerme için aşağıdakilerden hangisi söylenebilir?

- A) Geçerlidir
- B) Tutarlıdır
- C) Tutarsızdır
- D) Totoloji

8. Aşağıdaki önermelerden hangisi geçerlidir?

A)  $p \vee q$  B)  $p \wedge q$

D	D
Y	D
Y	D
D	D

C)  $p \Leftrightarrow q$  D)  $p \Rightarrow q$

D	D
D	Y
D	D
Y	D

## 2. OTURUM

9.

p	q
D	D
Y	Y
Y	Y
D	D

Tabloda verilen p q önermeleri eşdeğerdir.

**Buna göre iki önermenin eş değer olması aşağıdakilerden hangisini gerektirir?**

- A) Aynı satırda farklı doğruluk değeri almış olmalarını
- B) Tüm yorumlamalarında farklı doğruluk değerini almalarını
- C) Aynı satırda aynı doğruluk değeri almış olmalarını
- D) Önermelerin en az bir tane doğru değeri almalarını

10. “ $p \vee q \vee r$ ” önermesinin çözümleyici çizelgede çözümlemesi aşağıdakilerden hangisinde doğru olarak verilmiştir?

- A) I.  $p \vee q \vee r$       B) I.  $p \vee q \vee r$
- 
- C) I.  $p \vee q \vee r$       D) I.  $p \vee q \vee r$
- 

11. “Farabi filozoftur.” önermesinin niceleme mantığındaki sembolik ifadesi hangisidir?

- A)  $p \wedge q$       B)  $\neg p$
- C)  $p \vee q$       D)  $p \Rightarrow q$

12.  $\forall$  sembolüyle gösterilen tümel niceleyicinin anlamı aşağıdakilerden hangisidir?

- A) Bütün      B) Bazı
- C) Kimi      D) Bir kısım

13. Aşağıdakilerden hangisi açık önermeye örnektir?

- A) Aslan hayvandır.
- B) Altın madendir
- C) Ali çalışandır.
- D) X konuşandır.

14. Aşağıdakilerden hangisi üç değerli mantığın kabul ettiği doğruluk değerlerinden biri değildir?

- A) Doğru      B) Yanlış
- C) Eşit      D) Belirsiz

15. Kiplik değişmezlerinden “mükün” eklemine sembolü aşağıdakilerden hangisidir?

- A)  $\diamond$       B)  $\square$       C)  $\vee$       D)  $\wedge$

16. “Ağrı dağı vardır” önermesinin varlık mantığındaki sembolik ifadesi hangisidir?

- A)  $\diamond p$       B)  $\square q$
- C)  $\neg p$       D)  $E!a$

17. Aksiyomlardan üretilen ve doğruluğu aksiyomlara dayanarak belirlenen önermeler aşağıdakilerden hangisiyle adlandırılır?

- A) Tüme varım      B) Tümünden gelim
- C) Teorem      D) Tanım

18. Aşağıdakilerden hangisi mantığın eleştirel düşünme ve akılcı tartışma alanına uygulanmasını ifade eder?

- A) Kiplik mantığı
- B) Tartışma mantığı
- C) Varlık mantığı
- D) Özdeşlik mantığı

19. Aşağıdakilerden hangisi mantık felsefesinin ele aldığı temel sorunlardandır?

- A) Mantık ilkeleriyle ilgili sorunlar.
- B) Bilginin imkanı problemi
- C) Bilimin yöntemi problemi
- D) Güzellik problemi

20. Aşağıdakilerden hangisi mantık ilkelerinden değildir?

- A) Özdeşlik
- B) Çelişmezlik
- C) Üçüncü halin imkansızlığı
- D) Tüme varım

### (481) SANAT TARİHİ – 1

1. Yaş ince duvar sıvası üzerine kireç suyunda eritilmiş madeni boyalarla yapılan resme ne ad verilir?

- A) Fresko      B) Portre
- C) Peyzaj      D) Bordür

2. Aşağıdaki mesleklerden hangisinin uğraşı alanını kısaca “yapı tasarlamak” şeklinde tanımlayabiliriz?

- A) Operet      B) Balet
- C) Mimar      D) Heykeltıraş

3. Anadolu’nun en eski köy yerleşim yeri, aşağıdakilerden hangisidir?

- A) Truva      B) Çayönü
- C) Hacılar      D) Kültepe

4. Lise son sınıf öğrencisi Semavi, müze ziyareti sırasında iki taraflı taş baltaların, kemiklerden yapılmış kesici - delici aletlerin, mızrak uçlarının ve okların sergilendiği bir odaya girer.

**Sizce Semavi müzede hangi döneme ait eşyaların sergilendiği odaya girmiştir?**

- A) Mezolitik      B) Neolitik
- C) Kalkolitik      D) Paleolitik

5. Kazılarda ele geçen “Üçayaklı Tunç Kazanlar”, özellikle aşağıdaki ilk Çağ Anadolu uygarlığından hangisine ait madeni ürünlerdendir?

- A) Urartu      B) Lidya
- C) Hitit      D) Frig

## 2. OTURUM

6. “ - - - mimarisinin en önemli eserleri çok katlı ve kule şeklinde inşa edilen zigguratlardır.”

Verilen bilgi cümlesinin doğru olabilmesi için boş bırakılan yere, aşağıdakilerden hangisi yazılmalıdır?

- A) Dor B) Sümer  
C) Roma D) Hitit

7. Tümülüsler soylular ve yöneticiler için yapılmış mezar anıtlarıdır. Toprağa kazılmış ahşap mezar odasının üzeri ağaç gövdeleri, taş ve moloz kullanılarak kapatılmış ve üzeri toprakla örtülmüştür.

Yukarıda anlatılan mezar yapısı hangi İlk Çağ Anadolu uygarlığında ilk kez ve yaygın olarak kullanılmıştır?

- A) Hititlerde B) Friglerde  
C) Urartularda D) Lidyalılarda

8. Aşağıdakilerden hangisi Mısır uygarlığına ait piramlara verilen isimlerdendir?

- A) Keops - Kefren - Mikerinos  
B) Dor - İyon - Korint  
C) Agora - Odeon - Stadium  
D) Apsis - Narteks - Atrium

9. Mısırlıların kullandığı eski Mısır yazısına ne ad verilir?

- A) Çivi yazısı B) Hiyeroglif  
C) Grek D) Kiril

10. Yunan mimarlığının en önemli yapı tipi aşağıdakilerden hangisidir?

- A) Tapınak B) Mezar  
C) Tiyatro D) Agora

11. Helenistik dönemde yapılan MÖ 2. yüzyıla tarihlenen “Bergama Zeus Sunağı” hangi müzede sergilenmektedir?

- A) Antalya Müzesi  
B) İstanbul Arkeoloji Müzesi  
C) Almanya Pergamon Müzesi  
D) Ankara Anadolu Medeniyetleri Müzesi

12. Roma İmparatorluğu'nun çeşitli bölgelerinde, Hristiyanların MS ilk üç yüzyıl içinde meydana getirdikleri sanata ne ad verilmiştir?

- A) Erken Hristiyan Sanatı  
B) Roma Sanatı  
C) Bizans Sanatı  
D) Yunan Sanatı

13. Aşağıdakilerden hangisi bir Orta Çağ sanat akımı değildir?

- A) Gotik B) Roman  
C) Rönesans D) Barok

14. Aşağıdakilerden hangisi Rönesans dönemi mimarlarından değildir?

- A) Filippo Bürüneleski  
B) Leone Batista Alberti  
C) Donato Bramante  
D) Andrea Palladio

15. Resim ve heykel sanatında perspektifin kullanılması hangi dönemde görülmeye başlamıştır?

- A) Mısır  
B) Rönesans  
C) Yunan  
D) Roma

16. Sanatçının, Cerrahlar Loncası başkanı Dr. Tulp'u yanında bulunan öğrencileriyle birlikte bir kadavrayı incelerken gösterdiği eserinde, her biri ayrı bir portre örneği olan yüzlerde büyük bir dikkat ifadesi vardır. Işık gölge tekniğinin büyük ustasının resimde kullandığı ışık, kadavrayı ve çevresindekileri aydınlatmaktadır.

Yukarıda anlatılan eser ve sanatçısı aşağıdakilerden hangisidir?

- A) Pablo Picasso - Guernica  
B) Rembrandt - Anatomi Dersi  
C) Bottiçelli - Primavera  
D) Michelangelo - Mahşer

17. • Saray ressamı olarak tanınan sanatçı saray ve gündelik yaşamı resimlemiştir.  
• Fransız işgaline karşı İspanyol direnişini belgelediği “Kurşuna Dizilenler” adlı tablosu en tanınmış eseri sayılmaktadır.  
• Eserlerinde gerçekçi savaş sahanelerini, boğa güreşlerini, engizisyonu, karnavalları, portreleri çalışmıştır.

1746 - 1828 yıllarında yaşayan İspanyol ressam ve temsil ettiği sanat akımı, aşağıdakilerden hangisidir?

- A) Francisco Goya - Romantizm  
B) Salvador Dali - Gerçeküstücülük  
C) Andy Warhol - Pop Art  
D) Pablo Picasso - Kubizm

18. • Edouard Manet  
• Claude Monet  
• Pierre Auguste Renoir

Yukarıda isimleri sıralanan ressamlar hangi sanat akımının temsilcileridir?

- A) Pop Art  
B) Kubizm  
C) Realizm  
D) Empresyonizm

19. Pablo Picasso'nun İspanya iç savaşında tabloya da adını veren kasabanın bombalanmasını anlattığı başyapıtının adı nedir?

- A) Kurşuna Dizilenler  
B) Guernica  
C) Ayaklanma  
D) Taillebourg Savaşı

20. Aşağıda verilen sanatçı - sanat akımı eşleştirmelerinden hangisi yanlıştır?

- A) Juan Gris - Kubizm  
B) Paul Cezanne - Empresyonizm  
C) Andy Warhol - Klasisizm  
D) Henri Matisse - Fovizm

## 2. OTURUM

### (482) SANAT TARİHİ – 2

1. Batı kaynaklarında “Hung-nu” olarak adlandırılan kavim, aşağıdakilerden hangisidir?

- A) Çinliler B) Ruslar  
C) Türkler D) Hintliler

2. Orta Asya'nın yeryüzü şekilleri, iklimi ve Türklerin yaşayış tarzları, Türk kültüründe aşağıdakilerden en çok hangisinin gelişmesine sebep olmuştur?

- A) Ticaretin B) Hayvancılığın  
C) Mimarinin D) Tarımın

3. “Yarı göçebe yaşam biçimi, Hunlarda - - I - - sanatının, ölümden sonraki yaşama ait dinsel inanışları da - - II - - gelişmesini sağlamıştır.”

Hun sanatı ile ilgili yukarıda verilen bilginin doğru olabilmesi için numaralandırılarak boş bırakılan yerlere, hangi seçenekte verilen bilgiler yazılmalıdır?

I	II
A) Moğol	mimarinin
B) Türk	at koşum takımlarının
C) Esik	dokumacılığın
D) çadır	kurganların

4. Orta Asya'daki toplulukları bir çatı altında toplayan ilk Türk devleti, aşağıdakilerden hangisidir?

- A) Göktürk B) Avar  
C) Gazne D) Uygur

5. Uygur kubbeli mezar anıtlarının en güzel örnekleri, aşağıdaki hangi Uygur kentinde yapılan kazılar sonucunda bulunmuştur?

- A) Bezeklik B) Ordu-Balık  
C) Hoça D) Turfan

6. İslam sanatı, aşağıdakilerden hangisiyle ortaya çıkmıştır?

- A) Hz. Muhammed'in doğumuyla  
B) Hz. Muhammed'in peygamber olmasıyla  
C) İslam ordularının Mekke'yi fethetmesiyle  
D) Dört Halife Dönemi'nin başlamasıyla

7. Aşağıdaki camilerden hangisi, erken dönem İslam camilerinin yapılmasına örnek teşkil etmiştir?

- A) Mescid-i Akşa  
B) Mescid-i Nebevi  
C) Kordoba Camisi  
D) İsfahan Mescid-i Cuması

8. “Karahanlı yapılarının temellerinde - - I - -, duvarlarında ise - - II - - ve - - III - - kullanılmıştır.”

Verilen cümlelerin anlamca doğru olabilmesi için numaralandırılarak boş bırakılan yerlere aşağıdakilerden hangisi yazılmalıdır?

I	II	III
A) mermer	ahşap	tuğla
B) taş	mermer	kerpiç
C) kerpiç	ahşap	alçı
D) taş	kerpiç	tuğla

9. Aşağıdaki hangi dönemde ilk defa “Eyvanlı tip” camiler inşa edilmeye başlanmıştır?

- A) Gazneli  
B) Karahanlı  
C) Büyük Selçuklu  
D) Anadolu Selçuklu

10. Aşağıdakilerden hangisi, Anadolu'da yapılmış Türk camilerinin ilki olma özelliği taşır?

- A) Divriği Ulu Camisi  
B) Malatya Ulu Camisi  
C) Diyarbakır Ulu Camisi  
D) Konya Alaeddin Camisi

11. • Melikşah Dönemi'nde yapılmış bir medresedir.  
• Bugün harabe şeklinde olan medreseden günümüze tonozu yıkılmış bir eyvanla, kare avlunun çevresindeki eyvan duvarlarının bir kısmı ulaşmıştır.  
• Sarı renk tuğladan, yüksek kabartma olarak yapılmış çiçekli kûfi kitabesi Tahran Müzesi'nde sergilenmektedir.

Hakkında bilgi verilen medrese, aşağıdakilerden hangisidir?

- A) Kırşehir Caca Bey Medresesi  
B) Horasan Hargrid Medresesi  
C) Konya Karatay Medresesi  
D) Rey Medresesi

12. Aşağıdakilerden hangisi, Gömeç Hatun Türbesi ile ilgili doğru bir bilgi değildir?

- A) Kayseri'de bulunmaktadır.  
B) 13. yüzyılda inşa edilmiştir.  
C) Türbenin alt katı mumyalıktır.  
D) Yapının üçte biri kesme taştan, sonrası tuğladan örülmüştür.

13. Aşağıdakilerden hangisi, Türkiye Selçuklu mimarisindeki ahşap destekli camilerden biri değildir?

- A) Sivrihisar Ulu Camisi  
B) Milas Firuz Bey Camisi  
C) Ankara Aslanhane Camisi  
D) Beyşehir Eşrefoğlu Camisi

14. İstanbul'un fethinden sonra İstanbul'da inşa edilen ilk külliye, aşağıdakilerden hangisidir?

- A) Mihrimah Hatun Külliyesi  
B) Süleymaniye Külliyesi  
C) Bayezid Külliyesi  
D) Fatih Külliyesi

15. Aşağıdakilerden hangisi Türk izlenimcilerin önde gelen temsilcilerinden olup, bir sanatçı kuşağına da adını vermiştir?

- A) İbrahim Çallı  
B) Feyhaman Duran  
C) Hikmet Onat  
D) Hüseyin Avni Lifij

## 2. OTURUM

16. Şamanizm etkisinde göçebe bozkır halkının gündelik yaşantısını doğaüstü tasvirlerle genellikle gri ve grinin tonlarıyla resimlerinde yansıtmıştır. Konuları arasına cinler, devler, güreşenler, çalgı çalanlar, tüccarlar, göçerler de yer alır.

**Yukarıda betimlenen eserlerini 15. yüzyıl başlarında Orta Asya'da yaptığı düşünülen ressam, aşağıdakilerden hangisidir?**

- A) Mehmet Siyah Kalem  
B) Matrakçı Nasuh  
C) Seyyid Lokman  
D) Nakkaş Osman

17. 1929 yılında kurulan Cumhuriyet Dönemi'nin ilk sanat derneği ve sanatçı grup hareketi, aşağıdakilerden hangisidir?

- A) D Grubu  
B) Müstakil Ressam ve Heykeltıraşlar Birliği  
C) Yeniler Grubu  
D) Onlar Grubu

18. • Önemli bir portre sanatçısıdır.  
• İstanbul peyzajlarında akşam güneşi, kızıl havalar, loş ve ıssız mekânlar, mezarlıklar ve karlı manzaralar onun en sevdiği konulardır.  
• Yağlı boyalarında kullandığı sarı, turuncu ve kırmızı tonlarıyla anlatımını daha da güçlendirmiştir.  
• "Ağaçlar", "Çalgıcı", "Huzur" ve "Testili Kadın" sanatçının en tanınmış resimleridir.

**Hakkında kısa bilgi verilen sanatçı, aşağıdakilerden hangisidir?**

- A) Namık İsmail  
B) Feyhaman Duran  
C) Hüseyin Avni Lifij  
D) Bedri Rahmi Eyuboğlu

19. "III. Selim'in kız kardeşi Hatice Sultan'ın mimarı olarak çalışan - - - -, 19. yüzyılda sivil bir yapı tasarımıyla görevlendirilen ilk yabancı mimardır."

**Verilen cümlenin doğru olabilmesi için boş bırakılan yer, aşağıdakilerden hangisiyle tamamlanmalıdır?**

- A) Melling  
B) Jachmund  
C) Gespare Fossati  
D) Raymando Daranko

20. 18. yüzyılda celi yazıyı damalı çizgilerle yazarak geliştiren ünlü Osmanlı hattatı, aşağıdakilerden hangisidir?

- A) Hafız Osman  
B) Ahmet Karahisarî  
C) İsmail Zühdi Efendi  
D) Mustafa Rakım Efendi

### (502) İNGİLİZCE – 8

**1-20. sorularda boş bırakılan yere uygun gelen kelime ya da ifadeyi işaretleyiniz.**

1. - - - - the end of this year, we will have started the project.

- A) In B) On  
C) Of D) By

2. Aydın must study as hard - - - - he can in order to pass the exam.

- A) if B) so  
C) as D) on

3. Take a map with you - - - - you can find your way easily.

- A) because B) so that  
C) whenever D) after

4. She failed the exam - - - - that she didn't study regularly.

- A) due to the fact  
B) although  
C) in order to  
D) wherever

5. Don't worry! You will be walking - - - -.

- A) yet B) after  
C) before D) soon

6. This time - - - -, we will be celebrating our 25<sup>th</sup> wedding anniversary.

- A) yesterday B) next month  
C) last year D) a week ago

7. If I miss the class, the teacher - - - - angry with me.

- A) is getting B) will get  
C) had got D) would get

8. The conference - - - - in Glasgow.

- A) is holding B) had held  
C) will be held D) used to hold

9. Bora - - - - by a stranger yesterday.

- A) called B) will be calling  
C) is called D) was called

10. By the time Snow White comes home, the Seven Dwarves - - - - to the cave.

- A) had been going  
B) are going to go  
C) will have gone  
D) is going

11. The message will be - - - - in two hours.

- A) send B) sends  
C) sent D) sending

12. I - - - - waiting for you at the airport when you arrive.

- A) have been B) will be  
C) was D) am

## 2. OTURUM

13. We would sail all around the world if we - - - - a yacht.

- A) had
- B) have
- C) would have
- D) would have had

14. Will you have - - - - doing your homework when I arrive home?

- A) finish
- B) to finish
- C) finished
- D) finishing

15. The ship - - - - by the storm last month.

- A) would damage
- B) was damaged
- C) damaged
- D) damages

16. Less money - - - - this year.

- A) would have spent
- B) will be spending
- C) had been spent
- D) is being spent

17. I'll have gone far away by the time - - - -.

- A) you read this letter
- B) you are cooking dinner
- C) you visited your family
- D) you have cleaned your car

18. If you work harder, - - - -.

- A) you are in hurry
- B) you came home late
- C) you would earn more
- D) you will be successful

19. If it hadn't rained all weekend, - - - -.

- A) they would prepare a party
- B) she often watches the news
- C) we would have gone trekking
- D) you will have a driving license

20. A: - - - -?

B: To the library.

- A) Where will you be going after school
- B) What will you be doing when you graduate
- C) What time will you be leaving the office
- D) How will you be travelling to your village

(502) ALMANCA – 8

1-16. sorularda boş bırakılan yere uygun gelen kelime ya da ifadeyi işaretleyiniz.

1. A: Möchtest du Tee - - - - Kaffee?

B: Kaffee, bitte.

- A) oder
- B) aber
- C) weil
- D) denn

2. Alle Schüler - - - - zehn Minuten vor der Prüfung im Klassenzimmer sein. (Mecburiyet)

- A) darf
- B) sollen
- C) will
- D) laufen

3. Wie kann man Pilot - - - -?

- A) ist
- B) können
- C) werden
- D) dürfen

4. - - - - drei Monaten habe ich Osman nicht gesehen.

- A) Bis
- B) Seit
- C) Bei
- D) Um

5. Mit - - - - willst du tanzen?

- A) wie
- B) wer
- C) wen
- D) wem

6. A: - - - - hast du die Grundschule besucht?


B: Im Jahre 2000.

- A) Wo
- B) Wie
- C) Wann
- D) Was

7. Wäre ich ein Fußballspieler, - - - - ich viel Geld verdienen. (Konjunktiv II)

- A) würde
- B) wäre
- C) war
- D) hätte

8.



Das ist ein - - - -.

- A) Lastwagen
- B) Auto
- C) Bus
- D) Straßenbahn

9. A: - - - - ist Kırkkale von Ankara entfernt?


B: Ich glaube 70 km.

- A) Wozu
- B) Wie weit
- C) Womit
- D) Wie lange

10. Der dick- - - - Mann und die dünn- - - - Frau sind verheiratet.

- A) -en / -e
- B) -e / -en
- C) -es / -es
- D) -e / -e

11.



Wie spät ist es?  
Es ist - - - -.

- A) zehn nach elf
- B) zwanzig vor elf
- C) zehn vor elf
- D) zwanzig nach elf

12. Ihr - - - - nicht viel Kaffee trinken.

- A) sollen
- B) soll
- C) sollt
- D) sollst

## 2. OTURUM

13. - - - - soll Sport treiben, um gesund zu bleiben.

- A) Man            B) Ist  
C) Ihm            D) Ihr

14. kommen, - - - -, gekommen

- A) kommt        B) kommst  
C) komme        D) kam

15. Ihr - - - - uns im Garten nicht geholfen.

- A) habe            B) hast  
C) habt            D) haben


16. Der schwarz- - - - - Hund sitzt auf dem blau- - - - - Auto.

- A) - / -es        B) - e / -en  
C) -en / -e        D) - er / -es

17. Aşağıdakilerden hangisi sıfattır (Adjektiv)?

- A) sitzen        B) singen  
C) trinken        D) schwach

18.



Was machen Sie?

- A) Bus fahren  
B) Fahrrad fahren  
C) Autorennen  
D) Motorradrennen

19.



Was ist sie von Beruf?

- A) Polizist        B) Arztin  
C) Lehrerin        D) Bauingenieur

20. Aşağıdakilerden hangisi sıfattır (Adjektiv)?

- A) krank            B) weinen  
C) malen            D) verstehen

### (502) FRANSIZCA – 8

1-18. sorularda boş bırakılan yere uygun gelen kelime ya da ifadeyi işaretleyiniz.

1. - - - - ne m'avez rien donné.

- A) Je (J')        B) Elle  
C) Vous        D) Tu

2. Avant de sortir, - - - - votre ordinateur.

- A) appelez        B) parlons  
C) croyons        D) éteignez

3. Ce soir, on va à l'opéra. N'oublie pas de (d') - - - - trois tickets.

- A) acheter        B) respecter  
C) habiter        D) entendre

4. La boulangerie - - - - à 7 heures du matin.

- A) bois            B) ouvre  
C) mange        D) cherche

5. Jacques est une personne - - - - nous aimons beaucoup.

- A) dont            B) où  
C) qui            D) que

6. A : Qu'est-ce que vous prenez comme boisson?

B : Je prends - - - - .

- A) de l'eau gazeuse  
B) du poisson  
C) du gâteau au miel  
D) de la pizza

7. A : Sonay téléphone souvent à - - - - ?

B : Oui, elle leur téléphone souvent.

- A) sa mère        B) ses parents  
C) son fils        D) son père

8. A : Et toi, tu ne prends pas de frites?

B : Si, mais je peux - - - - manger une fois par mois.

- A) y            B) lui            C) en            D) les

9. Les Italiens mangent 28 kilos de pâtes - - - - personne - - - - an.

- A) par / par        B) dans / en  
C) en / dans        D) en / en

10. Je ne vais pas à la mer le matin mais je (j') - - - - vais l'après-midi.

- A) le            B) y            C) en            D) par

11. Pierre a rendez-vous à 11 heures. Il est 11h 20. Et il est encore chez lui.

Il est - - - - .

- A) à midi            B) en avance  
C) en retard        D) à l'heure

## 2. OTURUM

12. Il a cassé les verres - - - - sa maladresse.

- A) pourquoi B) à cause de  
C) parce que D) grâce à

13. Pour grossir, il faut - - - - .

- A) manger beaucoup  
B) faire du sport  
C) perdre du kilo  
D) marcher

14. - - - - ils iront en vacances en Espagne.

- A) L'été prochain  
B) Hier  
C) Avant-hier  
D) Lundi dernier

15. A: Tu viens à mon anniversaire?  
B: - - - - .

- A) S'il a soif, il veut boire du lait  
B) S'il a faim, il mange de la salade  
C) Si je vais mieux, je veux venir  
D) S'il y a un bon film, je veux aller

16. Hakan n'a pas fait ses devoirs, car - - - - un film d'action à la télé.

- A) c'était  
B) il faisait froid  
C) il faisait chaud  
D) il y avait

17. Pierre : Marie, je n'ai plus de viande, tu peux aller - - - - ?

Marie : D'accord, il faut autre chose?

Pierre : Oui, du poulet pour demain.

- A) à l'hôtel  
B) à la boulangerie  
C) à la librairie  
D) à la boucherie

18. Tu peux conduire mais il faut être - - - - .

- A) attentif B) hypocrite  
C) longue D) nouveau

19- 20. sorularda verilen resme göre cümlede boş bırakılan kısmı tamamlayan sözcük ya da ifadenin bulunduğu seçeneği işaretleyiniz.

19.



Mme Dupont qui est - - - - a deux chats et un chien.

- A) une fausse amie  
B) une jeune fille  
C) une vieille femme  
D) un vieil homme

20.



Quand il fait beau, - - - - .

- A) il lave sa moto  
B) il fait du vélo  
C) il répare son vélo  
D) il voyage en auto

(503) SEÇ. TARİH - 3

1. Aşağıdaki devletlerden hangisi, XIV. yüzyıl başında Anadolu'daki mevcut siyasi yapı içinde yer almaz?

- A) Türkiye Selçuklu Devleti  
B) Trabzon İmparatorluğu  
C) Bizans İmparatorluğu  
D) İznik İmparatorluğu

2. I. İlk Osmanlı - Bizans savaşıdır.  
II. İlk Osmanlı - Haçlı savaşıdır.  
III. İlk Osmanlı - İran Antlaşması'dır.

Özellikleri belirtilen olaylar, aşağıdakilerin hangisinde sırasıyla bir arada verilmiştir?

- |    | I           | II          | III        |
|----|-------------|-------------|------------|
| A) | Koyunhisar  | Sırpsındığı | Amasya     |
| B) | Sırpsındığı | Koyunhisar  | Amasya     |
| C) | Varna       | I. Kosova   | Serav      |
| D) | I. Kosova   | II. Kosova  | Kasrışirin |

3. Aşağıdaki Anadolu beyliklerinden hangisinin Osmanlı Devleti tarafından ele geçirilmesiyle Osmanlılarda, denizcilik faaliyetlerinin başladığı kabul edilir?

- A) Germiyoğulları  
B) Karesioğulları  
C) Hamitoğulları  
D) Aydınoğulları

4. Osmanlı tarihinde kaç tane "Kosova" savaşı vardır?

- A) 1 B) 2 C) 3 D) 4

5. I. Bizans'ın Osmanlı şehzadelerini kışkırtması  
II. Bizans'ın Haçlı seferlerine zemin hazırlaması  
III. Hz. Muhammed'in İstanbul'un fethini öven hadisinin olması  
IV. Bölge ticaret yollarının ve ticari gelirlerin ele geçirilmek istenmesi

İstanbul'un fethinin yukarıdaki nedenlerinin "dinî", "siyasi", ve "ekonomik" olarak sınıflandırılması, aşağıdakilerden hangisinde doğru yapılmıştır?

- |    | I        | II     | III      | IV       |
|----|----------|--------|----------|----------|
| A) | Ekonomik | Siyasi | Dinî     | Siyasi   |
| B) | Siyasi   | Siyasi | Ekonomik | Dinî     |
| C) | Dinî     | Siyasi | Dinî     | Ekonomik |
| D) | Siyasi   | Siyasi | Dinî     | Ekonomik |



## 2. OTURUM

6. Osmanlı Devleti'nin aşağıdaki görevlilerinden hangisi, esnafı denetleyerek üretimin kurallara uygun bir şekilde yapılmasını sağlamaktan sorumludur?

- A) Muhtesip
- B) Bac Emini
- C) Kapan emini
- D) Tımarlı Sipahi

7. Osmanlı Devleti'nin ilk dinsel ve sosyal nitelikli ayaklanması olan Şeyh Bedreddin İsyanı, hangi padişah döneminin önemli siyasi olayıdır?

- A) I. Murat
- B) I. Bayezit
- C) I. Mehmet
- D) I. Süleyman

8. I. Fransa  
II. Venedik  
III. Avusturya  
IV. Hollanda

Osmanlı Devleti, yukarıda verilen devletlerden hangilerine ekonomik ayrıcalıklar (kapitülasyonlar) tanımıştır?

- A) Yalnız I
- B) I ve III
- C) I, II ve IV
- D) I, II, III ve IV

9. Osmanlı Devleti'nde "Halife" unvanını taşıyan ilk padişah, aşağıdakilerden hangisidir?

- A) Kanuni Sultan Süleyman
- B) Yavuz Sultan Selim
- C) Fatih Sultan Mehmet
- D) II. Abdülhamit

10. Aşağıdaki adalardan hangisi Fatih Sultan Mehmet Dönemi'nde fethedilmemiştir?

- A) Rodos
- B) Taşoz
- C) İmroz
- D) Eğriboz

11. Osmanlı Devleti Kasrışirin Antlaşması'nı, aşağıdaki devletlerden hangisiyle imzalamıştır?

- A) İran
- B) Venedik
- C) Lehistan
- D) Avusturya

12. Aşağıdakilerden hangisi Kapıkulu Ocakları'nın yaya birliklerinden değildir?

- A) Topçular
- B) Cebeciler
- C) Sipahiler
- D) Yeniçeriler

13. "Osmanlılarda gayrimüslimlere ait olan topraklara - - - - adı veriliyordu."

Verilen bilgi cümlesinin doğru olabilmesi için boş bırakılan yere, aşağıdakilerden hangisi yazılmalıdır?

- A) Vakıf Topraklar
- B) Haracı Topraklar
- C) Öşri Topraklar
- D) Miri Araziler

14. Avrupa'da sanata ve bilime önem veren, bilgin ve sanatçıları himaye eden "Mesen Sınıfı", aşağıdaki gelişmelerden hangisi sonunda oluşmuştur?

- A) Rönesans hareketleri
- B) Reform hareketleri
- C) Yüzyıl Savaşları
- D) Coğrafi keşifler

15. Aşağıdakilerden hangisi Coğrafi Keşifler'i başlatan nedenlerden biridir?

- A) Atlas Okyanusu kıyılarındaki bazı liman şehirlerinin önem kazanması
- B) Müslümanların İpek ve Baharat yolları üzerindeki egemenliğini kırmak için yeni yollar arama düşüncesi
- C) Matbaanın öğrenilmesiyle çeşitli Eski Yunan ve Roma eserlerinin matbaada basılarak yeni bilgilerin kolayca yayılması
- D) Kavimler Göçü'nün başlaması

16. Osmanlı toprak yapısı içinde gelirleri padişah kızlarına, annelerine ve eşlerine ayrılan topraklara - - - - denirdi."

Cümledeki boşluğa aşağıdaki terimlerden hangisi yazılırsa tanımlama doğru yapılmış olur?

- A) ocaklık
- B) mukataa
- C) malikâne
- D) paşmaklık

17. Fransa Kralı XIV. Lui ile özdeşleşen söz, aşağıdakilerden hangisidir?

- A) Devlet demek ben demektir.
- B) Ekmek bulamıyorsa pasta yesinler.
- C) Cihangirane bir devlet çıkardı bir aşiretten.
- D) Çıplak milleti elbiseli, fakir milleti zengin kıldım.

18. III. Murat Dönemi'nin ünlü bilginlerinden olan Takiyuddin bin Mehmet, aşağıdaki hangi bilim dalında ün yapmıştır?

- A) Tıp
- B) Kimya
- C) Astronomi
- D) Arkeoloji

19. Osmanlı Devleti'nin toprak kaybettiği ilk antlaşma, aşağıdakilerden hangisidir?

- A) Küçük Kaynarca
- B) Karlofça
- C) Vasvar
- D) Bucaş

20. Reform hareketleri sonucunda İskoçya'da "Presbiteryen" adıyla kabul edilmiş olan mezhep, aşağıdakilerden hangisidir?

- A) Kalvenizm
- B) Protestanlık
- C) Katoliklik
- D) Anglikanizm

### (504) SEÇMELİ TARİH – 4

1. Avrupa'da, hangi yüzyılda krallıklar arasında "Veraset Savaşları" yaşanmıştır?

- A) XVIII. yüzyılda
- B) XVII. yüzyılda
- C) XVI. yüzyılda
- D) XV. yüzyılda

2. Aşağıdakilerden hangisi, III. Ahmet Dönemi'nde yapılan yeniliklerden biri değildir?

- A) İtfaiye Ocağının kurulması
- B) İlk kâğıt fabrikasının açılması
- C) İlk kez çiçek aşısının uygulanması
- D) Askerî amaçlı ilk nüfus sayımının yapılması

## 2. OTURUM

3. “Akıl Çağ’ı” adı verilen yüzyıl, aşağıdakilerden hangisidir?
- A) XVI. yüzyıl  
B) XVII. yüzyıl  
C) XVIII. yüzyıl  
D) XIX. yüzyıl
4. “Amerika Birleşik Devletleri’nin 1783’te kurulmasını sağlayan antlaşma ile 1919’da Almanya’nın İtilaf Devletleri’yle imzaladığı antlaşma aynı adı taşır. Bu antlaşma - - - - Antlaşması’dır.”
- Verilen bilgi cümlesinin doğru olabilmesi için boş bırakılan yere, aşağıdakilerden hangisi yazılmalıdır?
- A) Paris  
B) Sen Jermen  
C) Versay  
D) Triyanon
5. İzmir’in Çeşme Limanı’na baskın yaparak Osmanlı donanmasını yakan devlet, aşağıdakilerden hangisidir?
- A) Rusya  
B) Fransa  
C) Lehistan  
D) Yunanistan
6. Aşağıdakilerden hangisi, Sanayi İnkılabı’yla ortaya çıkan gelişmelerden biri değildir?
- A) Üretimin artması  
B) Sömürgecilik yarışının hızlanması  
C) Pazar ve ham madde ihtiyacının artması  
D) Milliyetçi ayaklanmaların artması
7. Yirmi sekiz Çelebi Mehmet Lale Devri’nde, aşağıdaki şehirlerden hangisine elçi olarak gönderilmiştir?
- A) Roma  
B) Paris  
C) Viyana  
D) Moskova
8. Fransızlar, 1802 yılında imzaladıkları El - Ariş Antlaşması ile aşağıdaki yerlerden hangisini Osmanlılara geri vermek zorunda kalmışlardır?
- A) Mısır  
B) Eflak  
C) Kırım  
D) Hicaz Bölgesi
9. “1868 - 1878 yılları arasında Ahmet Cevdet Paşa başkanlığındaki ilmî bir heyet tarafından İslam hukukuna bağlı kalınarak hazırlanan - - - -, şeri mahkemelerde 1877 - 1926 yılları arasında hukuki kaynak olarak kullanılmıştır.”
- Verilen cümlelerin doğru olabilmesi için boş bırakılan yer, aşağıdakilerden hangisiyle tamamlanmalıdır?
- A) Risale  
B) Mecelle  
C) Kanunname  
D) Teşkilâtesasiye
10. Kırım Savaşı, aşağıdaki antlaşmalardan hangisiyle sona ermiştir?
- A) Hünkâr İskeleyi  
B) Edirne  
C) Atina  
D) Paris
11. Aşağıdakilerden hangisi XIX. yüzyılda yönetim alanında yapılan ıslahatlardan biri değildir?
- A) Divan teşkilatının kaldırılarak kabine sistemine geçilmesi  
B) Köy ve mahallelere muhtar tayin edilmesi  
C) İlköğretimin zorunlu hâle getirilmesi  
D) Nazırlıkların kurulması
12. “Sekbanicedit” adlı ordu, hangi Osmanlı padişahı zamanında kurulmuştur?
- A) II. Mahmut  
B) Abdülaziz  
C) Abdülmecit  
D) II. Abdülhamit
13. Osmanlı tarihinde “93 Harbi” olarak bilinen savaş, aşağıdakilerden hangisidir?
- A) 1768 - 1774 Osmanlı - Rus Savaşı  
B) 1877 - 1878 Osmanlı - Rus Savaşı  
C) 1853 - 1856 Kırım Savaşı  
D) 1914 - 1918 I. Dünya Savaşı
14. Rusya, Osmanlı yönetiminde bulunan Ortodoksların haklarını koruyabilme hakkını, aşağıdaki antlaşmalardan hangisiyle elde etmiştir?
- A) Karlofça  
B) Pasarofça  
C) Hünkâr İskeleyi  
D) Küçük Kaynarca
15. Osmanlı Devleti’nde parlamenter sisteme ilk hangi tarihte geçilmiştir?
- A) 1808  
B) 1839  
C) 1856  
D) 1876
16. I. Dünya Savaşı’nın cephelerinden biri olan “Kanal Cephesi” ile kastedilen kanal aşağıdakilerden hangisidir?
- A) Kiel  
B) Korint  
C) Süveyş  
D) Panama
17. Mızıkayihümayun’u kurarak örgün bir müzik eğitimi başlatan Osmanlı padişahı, aşağıdakilerden hangisidir?
- A) II. Mahmut  
B) I. Mahmut  
C) III. Selim  
D) II. Abdülhamit
18. • Sanayiinefise Mektebinde eğitim görürken açılan bir yurt dışı sınavını kazanarak Fransa’ya gitmiştir.  
• Paris Güzel Sanatlar Akademisi mezunudur.  
• “1914 Kuşağı” ressamlarından.  
• Sanatçı resimlerinde desenden çok renge önem vermiştir.  
• Resimlerinde konu olarak manzaralar, portreler, natüremortlar, tarihten ve günlük yaşamdan kesitler bulunur.  
• Sanatçının önemli eserleri arasında “Manolyalar”, “Gül Koklayan Kadın”, “Mevleviler”, “Mor Salkımlar” ve “Hamakta Kadın” sayılabilir.
- Hakkında kısa bir bilgi verilen sanatçı aşağıdakilerden hangisidir?
- A) Abidin Dino  
B) İbrahim Çallı  
C) Osman Hamdi Bey  
D) Bedri Rahmi Eyuboğlu

## 2. OTURUM

19. Yemen ve Hicaz bölgesi, Osmanlı Devleti'nin elinden aşağıdaki hangi savaşın sonucunda çıkmıştır?

- A) Trablusgarp Savaşı
- B) II. Balkan Savaşı
- C) II. Dünya Savaşı
- D) I. Dünya Savaşı

20. II. Abdülhamit Han, aşağıdaki olaylardan hangisini bahane ederek anayasal düzene son vermiştir?

- A) 31 Mart Olayı'nı
- B) Patrona Halil İsyanı'nın çıkmasını
- C) 1877 - 1878 Osmanlı - Rus Savaşı'nı
- D) Genç Osman'ın yeniçeriler tarafından öldürülmesini

### (505) SEÇ. COĞRAFYA – 3

1. Aşağıdakilerden hangisi, bitki kalıntılarının birikip taşlaması sonucu oluşmuş bir kayadır?

- A) Kömür
- B) Andezit
- C) Tebeşir
- D) Mercan

2. Aşağıdaki kayalar türlerinden hangisinin aşınmaya karşı direnci daha zayıftır?

- A) Granit
- B) Volkan camı
- C) Elmas
- D) Tüf

3. Yer kabuğu bütün olmayıp parçalara ayrılmıştır. Bu parçaların her birine ne ad verilir?

- A) Sial
- B) Astenosfer
- C) Levha
- D) Sima

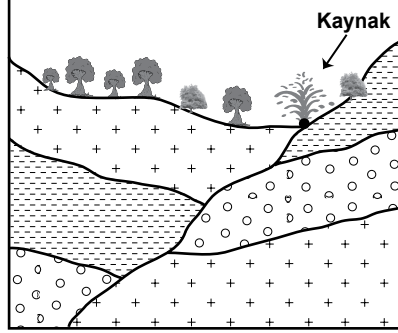
4. Sıcak su kaynaklarının dağılışı ile aşağıdakilerden hangisi arasında paralellik vardır?

- A) Tarım alanları
- B) Fay hatları
- C) Dağlık alanlar
- D) Nemli bölgeler

5. Bir akarsuyun gücünün azaldığı yerde kendi önünü tıkaması sonucu oluşmuş göle ne denir?

- A) Kıyı set gölü
- B) Heyelan set gölü
- C) Moren set gölü
- D) Alüvyal set gölü

6.



Şekilde gösterilen kaynak türü aşağıdakilerden hangisidir?

- A) Artezyen
- B) Gayzer
- C) Fay kaynağı
- D) Karstik kaynak

7. Yağış miktarı fazla olan bir bölgede oluşmuş topraklar için aşağıdakilerden hangisi söylenemez?

- A) Humus oranı fazladır.
- B) Toprak fazla yıkanmıştır.
- C) Fiziksel ayrışma sonucu oluşmuştur.
- D) Topraktaki mineral madde birikimi azdır.

8. Aşağıdaki toprak türlerinden hangisinin tarımsal verimliliği daha düşüktür?

- A) Tundra
- B) Çernezyom
- C) Alüvyon
- D) Terra-rossa

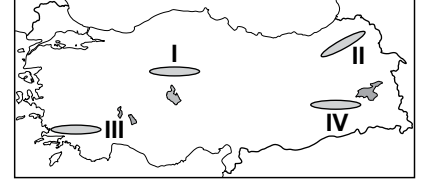
9. Terra-rossa toprakların kırmızı renkte olmasının temel sebebi aşağıdakilerden hangisidir?

- A) Kireç oranının fazla olması
- B) Üzerinde Maki örtüsünün bulunması
- C) Akdeniz iklim bölgesinde görülmesi
- D) Bünyesindeki demir minerallerinin oksitlenmesi

10. Aşağıdakilerden hangisi taşınmış topraklar içerisinde gösterilemez?

- A) Morenler
- B) Regosoller
- C) Çernezyom topraklar
- D) Alüvyal topraklar

11.



Haritada işaretli bölgelerimizin hangisinde toprak içerisindeki humus oranı daha fazladır?

- A) I
- B) II
- C) III
- D) IV

12. Ladin ağacı kızılçama göre daha yükseklerde yetişebilir.

Buna göre aşağıdakilerden hangisi kesinlikle söylenebilir?

- A) Ladin ağacı daha nemli yerlerde gelişir.
- B) Kızılçam kireçli topraklarda yetişmez.
- C) Ladin ağacı düşük sıcaklıklara daha dayanıklıdır.
- D) Ladin ağacı kızılçama göre daha uzundur.

13. Aşağıdakilerden hangisine bakılarak bir ülkenin gelişmişlik düzeyi hakkında yorum yapılmaz?

- A) Aritmetik nüfus yoğunluğu
- B) Ortalama yaşam süresi
- C) Kişi başına düşen millî gelir
- D) Nüfusun mesleklere göre dağılımı

14. I. Asker sayısını belirlemek  
II. Nüfus hareketlerini tespit etmek  
III. Vergi yükümlülerini belirlemek

Osmanlı Devleti'nde II. Mahmut döneminde yapılan nüfus sayımlarının amaçları arasında yukarıdakilerden hangileri gösterilebilir?

- A) Yalnız I
- B) I ve III.
- C) II ve III.
- D) I ve II.

## 2. OTURUM

### (506) SEÇ. COĞRAFYA – 4

15. Aşağıdakilerden hangisi kavimler göçü sonucunda göç edilen yerlerden biri değildir?

- A) Sibiryaya B) Avrupa  
C) Amerika D) Uzak Doğu

16. Aşağıdakilerden hangisi kırdan kentlere olan göçün nedenleri arasında gösterilemez?

- A) Sanayileşme  
B) Gecekondulaşma  
C) Tarımda makineleşme  
D) Eğitim hizmetlerinin yetersizliği

17. Gelişmiş ülkelerde nüfus artış hızı genel olarak düşüktür. Bu durumun sebepleri arasında aşağıdakilerden hangisi gösterilemez?

- A) İş gücü ihtiyacının fazla olması  
B) Nüfus planlamasının yapılmaması  
C) Kadınların çalışma hayatına girmesi  
D) Ekonomik kalkınmanın gerçekleşmesi

18. Aşağıdaki gelişmelerden hangisi Dünya nüfusunda daha hızlı bir artışa neden olmuştur?

- A) Hayvanların evcilleştirilmesi  
B) Tekstil sanayiinin gelişmesi  
C) İletişim araçlarının gelişimi  
D) Yerleşik hayata geçiş

19. I. Beslenme koşullarının iyileşmesi  
II. Kadınların çalışma hayatına girmesi

III. Tıp alanındaki ilerlemeler

Yukarıdaki gelişmelerden hangileri dünyadaki nüfus artış hızını düşürmüştür?

- A) Yalnız I B) Yalnız II  
C) I ve II. D) II ve III.

20. Günümüzde insanların göç etmesine neden olan en önemli faktör aşağıdakilerden hangisidir?

- A) İşsizlik  
B) Kuraklık  
C) Volkanik patlamalar  
D) Nüfus mübadelesi

1. Aşağıdakilerden hangisi zonal toprak türlerindedir?

- A) Vertisoller  
B) Çernezyom  
C) Regosoller  
D) Alüvyal topraklar

2. Aşağıdakilerden hangisi intrazonal toprakların temel özelliğidir?

- A) Su tutma kapasitelerinin düşük olması  
B) Ana kayanın, bulunduğu yerde çözünmesiyle oluşması  
C) Yapısını, anakayanın fiziksel ve kimyasal özelliklerinin belirlemesi  
D) Vadi tabanlarındaki düzlüklerde ve delta ovalarında yaygın olması

3. Fırat ve Dicle nehirleri hangi körfeze dökülür?

- A) İzmir Körfezi  
B) Basra Körfezi  
C) Antalya Körfezi  
D) İskenderun Körfezi

4. Aşağıdakilerden hangisi Güneydoğu Anadolu Projesi'nin (GAP) sonuçlarından biri olamaz?

- A) Enerji üretimini arttırmıştır.  
B) Tarımsal verimi arttırmıştır.  
C) Kırsal nüfus oranını yükseltmiştir.  
D) Tarıma dayalı sanayiye geliştirmiştir.

5. Köy kanununa göre aşağıdakilerden hangisi köyün ortak malı değildir?

- A) Cami  
B) Yaylak  
C) Orman  
D) Meyve bahçeleri

6. Ticari fonksiyonu gelişmiş olan şehirler için aşağıdakilerden hangisi kesin söylenebilir?

- A) Sanayi ve tarım gelişmemiştir.  
B) Yeraltı kaynaklarınca zengindir.  
C) Hizmet sektörünün gelişimi ihmal edilmiştir.  
D) İthalat ve ihracat faaliyetleri yoğundur.

7. Aşağıdaki şehirlerden hangisinin gelişmesini hinterlandının dar olması olumsuz etkilemiştir?

- A) Sinop B) İzmit  
C) Mersin D) İskenderun

8. Aşağıdakilerden hangisinde nüfusun yapısal özelliklerinden bahsedilmemiştir?

- A) İstanbul, güzellikleri ve tarihi yapılarıyla her yıl çok sayıda turist çeker.  
B) Ankara'da çalışan nüfusun çoğunluğu hizmet sektöründedir.  
C) Sanayi şehri olan İzmit'te erkek nüfusu daha fazladır.  
D) Kars kırsal nüfus oranı yüksek olan şehirlerimizdendir.

9. 31 Aralık 2014 verilerine göre ülkemizde, nüfus yoğunluğu en fazla ve en az olan iller aşağıdakilerden hangisinde doğru verilmiştir?

	En fazla	En az
A) Antalya		Rize
B) İstanbul		Tunceli
C) İzmir		Konya
D) Ankara		Bayburt

10. Yurdumuzda 1960-1965 yılları arasında nüfus artış hızının düşmesinde aşağıdakilerden hangisi daha çok etkili olmuştur?

- A) Eğitim düzeyinin yükselmesi  
B) II. Dünya Savaşı'nın etkileri  
C) Yurt dışına yapılan işçi göçleri  
D) Sağlık alanında yaşanan gelişmeler

## 2. OTURUM

11. 1974 yılında yaşanan petrol bunalımından sonra ülkemizden aşağıdaki ülkelerden hangisine daha çok işçi göç etmiştir?

- A) Suriye B) Suudi Arabistan  
C) Mısır D) Bulgaristan

12. Aşağıdakilerden hangisi Baharat Yolu güzergahında yer alan su kütlelerinden biri değildir?

- A) Akdeniz  
B) Kızıldeniz  
C) Karadeniz  
D) Atlas Okyanusu

13. Aşağıda verilen teknolojik gelişmelerden hangisi günümüze daha yakın bir zamanda gerçekleşmiştir?

- A) Faks geliştirildi.  
B) Matbaa icat edildi.  
C) İlk fotoğraf makinesi yapıldı.  
D) Radyo istasyonları kuruldu.

14. Cebelitarık Boğazı hangi iki su kütlelerini birbirine bağlar?

- A) Akdeniz - Ege Denizi  
B) Basra Körfezi - Hint Okyanusu  
C) Akdeniz - Atlas Okyanusu  
D) Hint Okyanusu - Büyük Okyanus

15. Kurak ve yarı kurak bölgelerde su ve rüzgâr erozyonunun etkili olmasının temel nedeni aşağıdakilerden hangisidir?

- A) Bitki örtüsünün zayıf olması  
B) Arazinin yanlış kullanılması  
C) Volkanik olayların görülmesi  
D) Tarımsal faaliyetlerin yoğun yapılması

16. Ülkemizde 1985 yılından sonra nüfus artış hızında azalma görülmektedir.

Aşağıdakilerden hangisi bu durumun nedenleri arasında gösterilemez?

- A) Eğitim düzeyinin yükselmesi  
B) Aile planlaması uygulamaları  
C) İç göçlerin yoğun yaşanması  
D) Kadının iş hayatında yer alması

17. Göç veren yerlerde kadın nüfus erkek nüfustan daha fazladır.

Aşağıdaki şehirlerden hangisi bu duruma örnek gösterilemez?

- A) Sinop B) Kırşehir  
C) İstanbul D) Kastamonu

18. Aşağıdakilerden hangisi kırdan kente göçü önlemede etkili olmaz?

- A) Tarımda makineleşmenin artırılması  
B) Besi ve ahır hayvancılığının geliştirilmesi  
C) Kırsal alanlarda tarıma dayalı sanayinin kurulması  
D) Kırsalda eğitim ve sağlık hizmetlerinin yaygınlaştırılması

19. Aşağıdakilerden hangisi volkanizmanın olumsuz etkilerinden biridir?

- A) Asit yağmurlarını oluşturması  
B) Bazı volkanik arazilerin turistik değer taşıması  
C) Volkanik taşların inşaat sektöründe kullanılması  
D) Volkanik toprakların mineral bakımından zengin olması

20. Aşağıdaki şehirlerden hangisinde çığ olayı daha sık görülür?

- A) Eskişehir B) Samsun  
C) Şanlıurfa D) Bingöl

### (511) FIKIH – 1

1. Aşağıda verilen mezhep ve mezhep imamı eşleştirmelerinden hangisi yanlıştır?

- A) Hanefilik - Numan bin Sabit  
B) Malikilik - Malik bin Enes  
C) Şafilik - Muhammed bin İdris  
D) Hanbelilik - Cafer-i Sadık

2. Aşağıda verilen bilgilerden hangisi fıkıh ilminin amaçlarından biri değildir?

- A) İnsanlar arası ilişkilerin olumlu yönde ilerlemesini sağlamak  
B) Hz. Peygamber dönemindeki savaşların yapılış amaçlarının anlaşılmasını sağlamak  
C) İnsanların Allaha karşı kulluk görevlerini bilinçli bir şekilde yerine getirmelerini sağlamak  
D) Adaletli, huzurlu ve istikrarlı bir toplum oluşmasına katkı sağlamak

3. Namaz vakitlerinin belirlenmesi ve mirasın paylaşımı gibi konularda fıkıh ilmi aşağıdaki ilim dallarının hangisinden/hangilerinden faydalanmaktadır?

- A) Mantık ve Felsefe  
B) Sosyoloji  
C) Tarih  
D) Matematik ve Coğrafya

4. Kişinin günlük hayatında faydasına ya da zararına olan şeyleri Kur'an ve Sünnet'ten deliller getirerek ortaya koyan ilim dalı aşağıdakilerden hangisidir?

- A) Kelam B) Tefsir  
C) Fıkıh D) Hitabet

5. Cenaze namazı kılmanın hükmü nedir?

- A) Far-ı Ayn B) Farz-ı Kifaye  
C) Vacip D) Sünnet

## 2. OTURUM

6. İctihatla ilgili aşağıda verilen bilgilerden hangisi yanlıştır?

- A) Fıkhi düşüncede birer zenginliktir.
- B) Eleştirel düşünceyi geliştirir.
- C) Geçmiş hükümleri taklit etmek esastır.
- D) Dinin daha kolay yaşanmasını sağlar.

7. Fıkhi hükümlerin kaynağı olan "Şari" kelimesi ile kastedilen aşağıdakilerden hangisidir?

- A) Âlimler ve Fakihler
- B) Allah ve Hz. Peygamber
- C) İlahiyatçılar
- D) Fetva Kurulu

8. "Daha önce gelen hükmün önceki hükmü kaldırması" olarak tanımlanan kavram aşağıdakilerden hangisidir?

- A) Nesih
- B) İstislah
- C) Avarız
- D) İskât

9. Hanefilere göre sünnet, ravilerin sayısı bakımından üçe ayrılır.

Aşağıdakilerden hangisi bu tasnifin dışında kalır?

- A) Mükked sünnet
- B) Mütevatir sünnet
- C) Meşhur sünnet
- D) Ahad sünnet

10. Kişinin bir takım haklara sahip olmaya elverişli bulunması ve sorumlulukları yerine getirebilme yeteneğine fıkhîta ne ad verilir?

- A) İkra
- B) Ehliyet
- C) Edille-i Şeriyeye
- D) Efal-i Mükellefin

11. Ev sahibi-kiracı arasındaki ilişki fıkhi ilminin konularından hangisinin alanına girer?

- A) Muamelat
- B) Münakehat
- C) Ukubat
- D) Feraiz

12. "O, fıkhi hükümler çıkarmada kitap, sünnet, icma ve kıyas delillerine başvurmuştur. Ayrıca Medine halkının uygulamasını ve Mesalih-i müreseyi dikkate alması onun fıkhiinin karakteristik özelliklerini oluşturur."

Yukarıda bahsedilen mezhep imamı kimdir?

- A) İmam Ahmed b. Hanbel
- B) İmam Malik b. Enes
- C) İmam-ı Azam Ebu Hanife
- D) İmam Muhammed b. İdris Eş-Şafî

13. Şarabın "haram" kılınmasından yola çıkarak tüm alkollü içeceklerde haram kabul edilmiştir.

Bu fıkhi hüküm aşağıdakilerden hangisine örnek oluşturur?

- A) İcma
- B) Kitap
- C) Kıyas
- D) Sünnet

14. Aşağıdaki ibadetlerden hangisi Hanefi mezhebine göre vaciptir?

- A) Sadaka vermek
- B) Kurban kesmek
- C) Cenaze namazı kılmak
- D) Ramazan ayı dışında oruç tutmak

15. Bir ibadeti bozan, bir antlaşmayı tamamen ya da kısmi olarak geçersiz kılan fiillere ne denir?

- A) Müfsit
- B) Mübah
- C) Mekruh
- D) Müstehab

16. • Miladi 699-765 yılları arasında Medine'de yaşamıştır.  
• Ebu Hanife ve Süfyan-ı Sevri kendisinden ders almıştır.  
• Şia'nın büyük çoğunluğu onun görüşlerini benimsemiştir.

Hakkında bilgi verilen mezhep imamı kimdir?

- A) Muhammed b. İdris eş-Şafii
- B) Ahmet b. Hanbel
- C) Cafer-i Sadık
- D) Malik b. Enes

17. Aşağıdaki davranışlardan hangisi müstehaptır?

- A) Sadaka vermek
- B) Kumar oynamak
- C) Ramazan orucu tutmak
- D) Namazları kerahet vaktine bırakmak

18. Aşağıdakilerden hangisi müctehitte aranan şartlardan biridir?

- A) Hafız olmak
- B) Erkek olmak
- C) Sahabe olmak
- D) Kuran ve sünneti bilmek

19. Aşağıdakilerden hangisi fıkhi hükümlerden "ruhsat"a bir örnektir?

- A) Namazın tek başına kılınabilmesi
- B) Şartları tutan herkesin zekât vermesi
- C) Hastanın, orucunu kazaya bırakabilmesi
- D) Akil- baliğ her Müslümana namazın farz kılınması

20. Aşağıdakilerden hangisi fıkhi ilminin konuları arasında çıkarılmıştır?

- A) Muamelat
- B) İbadât
- C) Ukubat
- D) İtikat

(512) FIKIH – 2

1. Aşağıdakilerden hangisi ihram yasakları arasında yer almaz?

- A) Güzel koku sürmek
- B) Tırnakları kesmek
- C) Bitkileri koparmak
- D) Banyo yapmak

2. Toprak ürünlerinden alınan zekât miktarı aşağıdakilerden hangisinde doğru verilmiştir?

- A) 1/10
- B) 1/20
- C) 1/30
- D) 1/40

## 2. OTURUM

3. "İnsan ölünce üç ameli dışında bütün amellerinin sevabı kesilir; kesintisiz iyilik, kendisinden faydalanılan ilim ve arkasından dua eden hayırlı evlat."

**Bu hadis aşağıdaki kavramlardan hangisi ile ilişkilendirilebilir?**

- A) Zekât
- B) İtikâf
- C) Sadaka-i Fıtr
- D) Sadaka-i Cariye

4. **Aşağıdakilerden hangisi namazın hazırlık şartlarından biri değildir?**

- A) Vakit
- B) Niyet
- C) Kıyam
- D) Setr-i Avret

5. **Cemaatle kılınması zorunlu olan namaz aşağıdakilerden hangisidir?**

- A) Vitr namazı
- B) Cuma namazı
- C) Teravih namazı
- D) Beş vakit namaz

6. **Aşağıdakilerden hangisi umrenin şartlarından biri değildir?**

- A) İhram
- B) Tavaf
- C) Vakfe
- D) Sa'y

7. "Allah emanetleri ehline vermenizi, insanlar arasında hükmettiğiniz zaman adaletle hükmetmenizi emreder..." (Nisâ suresi, 58. ayet)

**Aşağıdakilerden hangisi bu ayette vurgulanan konulardan biridir?**

- A) İbadet
- B) Liyakat
- C) Tevekkül
- D) Mülkiyet

8. **Yolculuk sırasında mest ve sarğı üzerine meshetmenin süresi kaç gündür?**

- A) 1 gün
- B) 3 gün
- C) 5 gün
- D) 7 gün

9. I. Setr-i Avret  
II. Kıyam  
III. Vakit  
IV. Ka'de-i âhire

**Yukarıdakilerden hangileri namazın kılınış şartlarındandır?**

- A) Yalnız I
- B) Yalnız II
- C) II ve IV
- D) I ve III

10. **Orucun başlama zamanı (imsak) aşağıdakilerden hangisidir?**

- A) Tan yerinin ağırmasından otuz dakika sonra
- B) Güneşin doğmasından otuz dakika önce
- C) Güneşin doğması ile
- D) Tan yerinin ağarması ile

11. **Aşağıdaki oruçlardan hangisi farzdır?**

- A) Kazaya kalmış oruçlar
- B) Haftanın pazartesi ve perşembe günü tutulan oruçlar
- C) Her kameri ayın 13, 14 ve 15. günlerinde tutulan oruçlar
- D) Muharrem'in 9. ve 10. günlerinde tutulan oruçlar

12. **Aşağıdaki namazların hangisinde imam kıraatı sesli yapmaz?**

- A) Sabah namazı
- B) Cuma namazı
- C) Akşam namazı
- D) İkinci namazı

13. **Aşağıdakilerden hangisi zekatın toplumsal faydalarındandır?**

- A) Allah'ın hoşnutluğunu kazandırır.
- B) Sosyal adaleti sağlar.
- C) Şefkat ve merhamet duygularını geliştirir.
- D) Cimrilik, kıskançlık ve bencillik duygularından uzaklaştırır.

14. **Aşağıdakilerden hangisi umrede yapılmaz?**

- A) Şeytan taşlama
- B) İhram
- C) Tavaf
- D) Say

15. **Oruç ibadeti Kur'an'da hangi kavram ile ifade edilmiştir?**

- A) Salât
- B) Savm
- C) Fıtr
- D) Udhiye

16. **Aşağıda verilen oruç çeşitlerinden hangisi farzdır?**

- A) Adak
- B) Aşure
- C) Şevval
- D) Kefaret

17. **Aşağıdaki durumlardan hangisi orucu bozmaz?**

- A) Ağızdan ilaç almak
- B) Kasten bir şeyler yiyip içmek
- C) Unutarak bir şeyler yiyip içmek
- D) Kendi isteği ile ağız dolusu kusmak

18. **Duha, Evvabin ve Teheccüd gibi namazların hükmü nedir?**

- A) Vacip
- B) Sünnet
- C) Farz
- D) Nafile

19. "Hac, Arafat'tan ibarettir."

**Bu hadis aşağıdaki kavramlardan hangisi ile ilgilidir?**

- A) Vakfe
- B) Şavt
- C) Tavaf
- D) Sa'y

20. **Kaza orucunu hastalık nedeniyle bozan kişi ne yapmalıdır?**

- A) Bir daha tutması gerekmez.
- B) Tutup tutmamakta serbesttir.
- C) Uygun bir zamanda tekrardan tutmalıdır.
- D) Altmış gün kefarete orucu tutmalıdır.

## 2. OTURUM

(531) HZ. MUHAMMED'İN HAY. – 1

1. Aşağıdaki olaylardan hangisi diğerlerinden önce gerçekleşmiştir?

- A) Fil Olayı
- B) Âmine'nin vefatı
- C) Hılf'ul-Fudul'un kurulması
- D) Peygamberimizin Ficar Savaşı'na katılması

2. Hz. Muhammed (sav.) ticaret için Busra'ya kimin himayesinde gitmiştir?

- A) Abdülmuttalip
- B) Ebu Lehep
- C) Ebu Talip
- D) Zübeyr

3. Hz. Hatice ile ilgili aşağıda verilen bilgilerden hangisi yanlıştır?

- A) İlk Müslümanlardan biridir.
- B) Hz. Peygamber'in ilk eşi.
- C) Mekke'de vefat etmiştir.
- D) Hz. Ebu Bekir'in kızıdır.

4. Peygamberimizin Hz. Hatice'den olmayan çocuğu aşağıdakilerden hangisidir?

- A) Kasım
- B) Abdullah
- C) İbrahim
- D) Ümmü Gülsüm

5. Aşağıdaki gazvelerin hangisinde savaş gerçekleşmiştir?

- A) Sevik
- B) Beni Müstalik
- C) Tebük
- D) Hamrâülesed

6. Aşağıdaki olaylardan hangisi, İslam'ın hızlı bir şekilde yayılmasında etkili olmamıştır?

- A) Hz. Hamza ve Hz. Ömer'in Müslüman olmaları
- B) Hudeybiye Antlaşması'nın yapılması
- C) Uhud Savaşı'nın gerçekleşmesi
- D) Mekke'nin fethedilmesi

7. İfk Olayı ile ilgili aşağıda verilen bilgilerden hangisi yanlıştır?

- A) Hz. Fatıma'ya atılan bir iftiradır.
- B) Müreysi Gazvesi dönüşünde meydana gelmiştir.
- C) İnananların denendiği kritik bir imtihandır.
- D) Zan ile hareket etmenin yanlışlığına güzel bir örnektir.

8. Aşağıdaki olaylardan hangisi Mekke'nin fethinden sonra gerçekleşmiştir?

- A) Hudeybiye Antlaşması
- B) Akabe Biatları
- C) Tebük Seferi
- D) Recî' Olayı

9. "Ey insanlar! Sözümü iyi dinleyiniz! Bilmiyorum, belki bu seneden sonra sizinle burada bir daha buluşamayacağım. İnsanlar! Bugünleriniz nasıl mukaddes bir gün ise, bu aylarınız nasıl mukaddes bir ay ise, bu şehriniz nasıl mukaddes bir şehir ise, canlarınız, mallarınız, namuslarınız da öyle mukaddestir, her türlü saldırıdan korunmuştur..."

Hz. Muhammed (sav.) bu konuşmayı ne zaman yapmıştır?

- A) Veda Haccı'nda
- B) Mekke'nin fethinde
- C) Medine'ye hicretten önce
- D) Hudeybiye Antlaşmasından sonra

10. Allah inancı ve bu inançtan kaynaklanan sorumluluk duygusu sebebiyle kötü, ahlak dışı ve günah olan şeylerden kaçınmak demektir.

Tanımı yapılan kavram aşağıdakilerden hangisidir?

- A) İhsan
- B) Şükür
- C) Mubah
- D) Hayâ

11. Aşağıdakilerden hangisi ifk olayı olarak isimlendirilir?

- A) Adal ve Kare kabilelerine gönderilen öğretmenlerin öldürülmesi
- B) Hz. Peygamber'in eşi Hz. Aişe'ye iftira edilmesi
- C) Müslümanlar arasında kardeşlik oluşturulması
- D) Medine Sözleşmesi'nin Yahudilerce ihlal edilmesi

12. Hz. Muhammed (sav.)'in katıldığı en son sefer hangisidir?

- A) Taif
- B) Hayber
- C) Mute
- D) Tebük

13. Aşağıdakilerden hangisi Hz. Peygamber'in Veda Hutbesi'nde bahsettiği konulardan biri değildir?

- A) Hırsızlık yapmayacaksınız.
- B) Cana kıymayacaksınız.
- C) Zina etmeyeceksiniz.
- D) Eşlerinizi boşamayacaksınız.

14. • Medine'ye hicret  
• Bedir savaşı  
• Mekke'nin fethi

Bu olayların meydana geliş tarihleri hangileridir?

- A) 620-623-628
- B) 621-625-629
- C) 622-624-630
- D) 623-626-632

15. Aşağıdakilerden hangisi Hz. Muhammed (sav.)'in damadıdır?

- A) Hz. Osman
- B) Hz. Ömer
- C) Hz. Ebu Bekir
- D) Hz. Halid b. Velid

16. Aşağıdakilerden hangisi Hz. Muhammed (sav.)'in yemek yeme adabı ile ilgili tavsiyelerinden biri değildir?

- A) Besmele ile başlamak
- B) Sağ el ile yemek
- C) Önünden yemek
- D) Günde bir öğün yemek

17. Aşağıdaki tutum ve davranışlardan hangisi Hz. Peygamber'in öğretilerine uygun değildir?

- A) Aile mahremiyetine saygı göstermek
- B) Tertipli ve düzenli yaşamak
- C) İnsanları hor görmek
- D) Hoşgörülü olmak



## 2. OTURUM

18. Aşağıdakilerden hangisi Peygamberimiz tarafından, insanı cennete götüren davranışlardan biri olarak ifade edilmiştir?

- A) İffet yoksunluğu
- B) Huy güzelliği
- C) Laf taşımak
- D) Kendini beğenmek

19. Komşularından biri Hoca'ya, "Hocam! Bir tepsi baklava götürülüyor." deyince Hoca: "Bana ne?" diye cevap verir. Hocam baklava sizin eve götürülüyor." deyince de, "Sana ne?" diye cevap vermiştir.

**Bu hikâye aşağıdaki hadislerden hangisi ile ilişkilendirilebilir?**

- A) "Kişinin Müslümanlığının güzelliği, kendisini ilgilendirmeyeni konuşmamasıdır."
- B) "Allaha ve ahiret gününe iman eden kimse komşusuna eziyet etmesin..."
- C) "Müslüman, başka Müslümanlara eliyle ve diliyle zarar vermeyen kişidir."
- D) "Her işittiğini söylemek insana yalan olarak yeter."

20. "Allah, satışında hoşgörülü, alışında hoşgörülü, ödemesinde hoşgörülü kimseleri sever."

**Bu hadiste aşağıdakilerden hangisi vurgulanmıştır?**

- A) Adalet
- B) Kolaylık
- C) Cesaret
- D) Samimiyet

### (532) HZ. MUHAMMED'İN HAY. – 2

1. Peygamberimizin bulunduğu ortama dışarıdan katılan kişiler, onu tanıyamıyorlar, "Hanginiz Muhammed?" ya da "Kavmin efendisi hanginiz?" diye sormak zorunda kalıyorlardı.

**Bu durum Peygamberimizin hangi özelliğini göstermektedir?**

- A) Cesaretini
- B) Mütevazılığını
- C) İnsana değer vermesini
- D) İbadetlerine özen göstermesini

2. • Hz. Muhammed (sav.)'e "Muhammedü'l-Emin" denilmesi  
• "Kâbe hakemliği" yaptığında kimsenin itiraz etmemesi

**Verilen bilgiler Peygamberimizin hangi özelliğini göstermektedir?**

- A) Güvenilir ve adil olması
- B) Cesaretli ve kararlı olması
- C) Sabırlı ve hoşgörülü olması
- D) Merhametli ve affedici olması

3. "Akıl akıldan üstündür."

**Bu atasözü aşağıdakilerden hangisine vurgu yapmaktadır?**

- A) Takvâya
- B) İstişareye
- C) Tefekküre
- D) Tevekküle

4. "Ey iman edenler! Adaleti titizlikle ayakta tutan, kendiniz, ana babanız ve akrabanız aleyhinde de olsa Allah için şahitlik eden kimse-ler olun..." (Nisâ suresi, 135. ayet)

**Bu ayette aşağıdakilerden hangisine değinilmemiştir?**

- A) Hoşgörülü olmak
- B) Yalandan kaçınmak
- C) Adaletli davranmak
- D) Doğruluktan ayrılmamak

5. "Her kim yalnız Allah rızası için bir yetimin başını okşarsa elinin değdiği her saç teli hatırına sayısız sevap kazanır. Kim yetim kalmış bir kız veya erkek çocuğu yanına alıp iyilik ve güzellikle bakarsa ben ve o cennette şu iki parmak gibi yan yanayız."

**Bu hadisten aşağıdaki sonuçlardan hangisi çıkarılamaz?**

- A) Yetimleri koruyup kollamak gerekir.
- B) Yapılan işlerde Allah rızası gözetilmelidir.
- C) Yetimlere sahip çıkanlar mükâfatını göreceklerdir.
- D) Takva bakımından insanların en üstünü yetime sahip çıkanlardır.

6. Aşağıdakilerden hangisi İslam dininin tavsiye ettiği bir davranıştır?

- A) Kendini beğenme
- B) İnsanları kıskanma
- C) Alçakgönüllü olma
- D) Cömertlikten kaçınma

7. Aşağıdaki ayetlerden hangisi konusu bakımından diğerlerinden farklıdır?

- A) "Onlar, kendi canları çekmesine rağmen yemeği yoksula, yetime ve esire yedirirler." (İnsan suresi, 8. ayet)
- B) "Onların (zenginlerin) mallarında, muhtaç ve yoksullar için bir hak vardır." (Zâriyât suresi, 19. ayet)
- C) "İşte o, yetimi itip kakar; yoksulu doyurmaya teşvik etmez." (Mâun suresi, 2-3. ayetler)
- D) "Ey iman edenler! Mallarınız ve çocuklarınız sizi Allah'ı anmaktan alıkoymasın..." (Münâfikûn suresi, 9. ayet)

8. "Zenginlerin davet edilip fakirlerin çağrılmadığı düğün yemeği ne fena bir yemektir."

**Bu hadiste aşağıdakilerden hangisine vurgu yapılmıştır?**

- A) Fakirleri koruyup kollamaya
- B) Nikâhı insanlara duyurmaya
- C) Düğünlere herkesi davet etmeye
- D) Düğünlerde yemek ikram etmeye

9. Peygamber Efendimize ilk vahiy geldiğinde telaş ile eve gelip durumu Hz. Hatice'ye anlatmış ve Hz. Hatice ona; "Üzülme, sen fakiri doyurur ve akrabaya yardım edersin. Allah, seni utandırmaz!" demişti.

**Bu olayda Hz. Hatice, Peygamberimizin hangi yönüne değinmemiştir?**

- A) Akrabalarla ilişkilerine
- B) Fakirleri korumasına
- C) Cesaretli kişiliğine
- D) Cömert oluşuna

10. Hz. Muhammed (sav.)'in Mekke Dönemi'nde mağdur insanlara yardım etmek, haksızlığa uğrayanların haklarını korumak amacıyla katıldığı teşkilat aşağıdakilerden hangisidir?

- A) Dârun-Nedve
- B) Hılful-Fudul
- C) Dârul Erkam
- D) Ashâb-ı Suffa

## 2. OTURUM

11. “Abdullah bin Mesud’un karısı Zeynep şöyle demiştir: Resulullah (sav.)’a; kocama ve yakınlarımdan korumam altında bulunan birkaç yetime verdiğim nafaka benim için sadaka yerine geçer mi? diye sordum. Resulullah (sav.): Söylediğin nafakadan dolayı iki ecir vardır. Bunlar - - - - ve - - - - ecri.” buyurdu.

**Hadiste boş bırakılan yerlere sırasıyla aşağıdakilerden hangileri getirilmelidir?**

- A) Sadaka - Misafirlik  
B) Zekât - Arkadaşlık  
C) Sadaka - Akrabalık  
D) Zekât - Komşuluk

12. Yetim ve velisiyle ilgili aşağıda verilen bilgilerden hangisi doğrudur?

- A) Yaşı küçük olan yetimin mali velisine miras olarak verilir.  
B) Veli zengin olsa bile yetimin malından sınırsız harcama hakkı vardır.  
C) Yetim olgunluğa erişse bile velisinin izni olmadan malından tasarrufta bulunamaz.  
D) Veli her ne olursa olsun yetimin malına, onun lehine olmadıkça dokunamaz.

13. “Kimsesiz kadınların ve fakirlerin ihtiyacını gideren Müslüman, Allah için namaz kılan ve gündüz oruç tutan âbid gibidir.”

**Bu hadiste aşağıdakilerden hangisinin önemi vurgulanmıştır?**

- A) Namaz kılmanın  
B) Yardım etmenin  
C) Oruç tutmanın  
D) Affetmenin

14. Hz Muhammed (sav.)’in gençliğinde “Hılfu’l-Fudul” teşkilatına üye olması O’nun hangi özelliğine örnektir?

- A) Akıllı ve zeki bir insan olmasına  
B) Günah işlemekten uzak olduğuna  
C) Zülme ve haksızlığa karşı olduğuna  
D) Liderlik vasfına sahip olduğuna

15. Aşağıdakilerden hangisi “Suffa”nın işlevlerinden biri değildir?

- A) Siyasi kararlara ev sahipliği yapmak  
B) Misafirhane ihtiyacını gidermek  
C) Kimsesizlere hizmet vermek  
D) Eğitime katkı sunmak

16. Aşağıdakilerden hangisi Peygamberimizin güzel gördüğü davranışlardan biridir?

- A) Dilenmek  
B) İsteyeni boş çevirmek  
C) Engellileri topluma kazandırmak  
D) Çevresindeki olaylara duyarsız kalmak

17. Aşağıdakilerden hangisi Peygamberimiz tarafından Medine halkına Kur’an öğretmesi için gönderdiği sahabelerden biridir?

- A) Ümmü Mektum  
B) Zeyd bin Harise  
C) Mut’im bin Adiy  
D) Nuaym bin Mesud

18. Aşağıdakilerden hangisi istişarenin sonuçlarından biri değildir?

- A) Hata payını azaltması  
B) Farklı bakış açısı kazandırması  
C) Sonucun kabulünü kolaylaştırması  
D) Bireyin iradesini ortadan kaldırması

19. İstişare ile ilgili aşağıda verilen bilgilerden hangisi doğrudur?

- A) Âlimin istişare etmeye ihtiyacı yoktur.  
B) Lüzum duyulan her konuda yapılabilir.  
C) Görüşüne başvurulmuş kişinin fikri uygulanmalıdır.  
D) Danışılacak kişinin her konuda bilgi sahibi olması gerekir.

20. Aşağıdakilerden hangisi Peygamberimizin yaptığı istişareye örnektir?

- A) Namaza çağırının ezanla yapılması  
B) Kur’an-ı Kerim’in çoğaltılması  
C) Hicri takvimin kabul edilmesi  
D) Ebu Bekir’in halife seçilmesi

(613) SEÇ. DİL VE ANLA. – 3

1. Aşağıdakilerden hangisi dilin alıcıyı harekete geçirme işleviyle oluşturulan metinlerden biridir?

- A) Reklam metinleri  
B) Özel mektuplar  
C) Lirik şiirler  
D) Eleştiri yazıları

2. Cümleden herhangi bir sözcük çıkarıldığında cümlenin anlamında daralma olmuyorsa yani sözcük gereksiz kullanılmamışsa anlamda - - - - ilkesine uyulmuştur.

**Bu cümlede boş bırakılan yere aşağıdakilerden hangisi getirilmelidir?**

- A) özlülük      B) duruluk  
C) doğallık      D) açıklık

3. Aşağıdakilerden hangisi panelin özelliklerinden biri değildir?

- A) Bir başkan bulunur.  
B) Konuşmacı sayısı 3 ile 6 arasında değişebilir.  
C) Amaç bir konunun doğruluğunu ispatlamaktır.  
D) Konuşmacılar uzmanı oldukları konunun ayrı bir yönünü ele alır.

4. Aşağıdakilerden hangisi tartışma yönteminin aşamalarından biri değildir?

- A) Tartışma problemini seçmek  
B) Araç ve tekniklerini belirlemek  
C) Tarafsız olmak  
D) Değerlendirme

5. Aşağıdakilerden hangisi sunum sırasında görsel malzemenin kullanım amaçlarından biridir?

- A) Fikirleri, kavramları anlatırken zaman harcamak  
B) Yanlış anlamalarla mizah yapmak  
C) Sunum yapan kişinin reklamını yapmak  
D) Sunumu sıkıcılıktan kurtarıp onu renklendirmek

## 2. OTURUM

6. Güncel herhangi bir konu hakkında herhangi bir grup ya da topluluğa bilgi vermek amacıyla yapılan etkinliklerin tümüne verilen addır.

**Bu parçada tanımı verilen sözlü anlatım biçimi aşağıdakilerden hangisidir?**

- A) Panel B) Röportaj  
C) Münazara D) Sunum

7. Bir bıçak saplı durur göğsünde  
Hangi su taşına uzansan boş  
Hangi pencereye koşarsan koş  
Aynı siyah güneş gökyüzünde

**Bu şiirde ağır basan duygu aşağıdakilerden hangisidir?**

- A) Özlem  
B) Sevgi  
C) Umutsuzluk  
D) Kahramanlık

8. Sevgisizliklerin, yıkılışların, kuşku-  
ların, kaçışların, kendinden hoş-  
nutsuzlukların romanı "Bir Düşün  
Gecesi"; toplumsal çözülüşün  
ağır bastığı bir dönemde, umarsız  
ve yalnız bireylerin birbirlerine  
bel bağlama çabalamalarının  
romanıdır. Nicedir beklenen bir  
eleştirinin romanı. Yer yer Sartre'in  
"Cehennem başkalarıdır." sözünü  
anımsatan bir roman.

**Bu parçada aşağıdaki anlatım biçimlerinden hangisi kullanılmıştır?**

- A) Tartışma B) Açıklama  
C) Betimleme D) Öyküleme

9. Aşağıdakilerden hangisinin anlatıcısı farklıdır?

- A) Evimiz sokağın alt başında.  
Yatıp kalktığım odanın penceresinden bakınca bir baştan bir başa bütün sokağı görüyorum.  
B) Çocukların ağlamasına dayanamam. Bir fena olurum duydum mu. İçimi hemen bir huzursuzluk kaplar.  
C) Pencereden dışarı baktım. Karşı komşumuz Boşnak Nuri'nin küçük oğlu yalın ayak kapılarının önüne yüzükoyun düşmüş, ağlıyor.  
D) Fenerin ışığı bir kadının yüzünde durup geçti. Bu bir an içinde erkek, kadının saklamayı başaramadığı derin acıyı anlamaya çalışıyordu.

10. Doğru arkadaş seçmenin önemi konusunda bir yazı yazılacak olsa aşağıdaki atasözlerinden hangisi ana düşünce cümlesi olarak seçilmez?

- A) Topalla gezen aksamak öğrenir.  
B) Üzüm üzümüne baka baka kararır.  
C) Adamın iyisi iş başında belli olur.  
D) İsin yanına varan is, misin yanına varan mis kokar.

11. Gönderici ile alıcı arasında aktarılmakta olan duygu, düşünce ya da isteğe denir.

**Bu cümlede tanımı verilen iletişim ögesi aşağıdakilerden hangisidir?**

- A) İleti B) Dönüt  
C) Kanal D) Kod

12. Aşağıdakilerden hangisi iyi bir sunum için dikkat edilmesi gereken hususlardan biri değildir?

- A) Slaytlarda çok küçük yazı fontu kullanılmamalıdır.  
B) Hâkim olunmayan bir konuda sunum yapmaktan kaçınılmalıdır.  
C) Konuşmacı dinleyicilerle göz teması kurmalıdır.  
D) Sunumdan önce seyircili prova yapılmalıdır.

13. Aşağıdakilerden hangisi tartışmalarda başkanının görevlerinden biri değildir?

- A) Tarafsız olmak  
B) Konuşmacıların konu dışına çıkmalarını sağlamak  
C) Özetler yaparak konuyu toplamak  
D) Tartışmayı başlatmak

14. Aşağıdaki cümlelerin hangisi "öznel anlatım"a örnektir?

- A) Turizm gelirleri geçen yıla oranla artmıştır.  
B) Yazar bu eserinde sürükleyici bir dil kullanmıştır.  
C) Bu oyun dört perdeden oluşmuştur.  
D) "Otuz Beş Yaş" adlı şiir Cahit Sıtkı Tarancı'ya aittir.

15. Ben yazılarımda diğer eleştirmenlerden farklı olarak "kendini tanımak" kavramı üzerinde çok fazla duruyorum. "Kendini tanımak niçin gerekli?" sorusu aklınıza gelmiş olabilir. Belki bu soru, "Kendini tanıyan kimsenin, kendini tanımayan birine göre ne gibi üstünlükleri vardır?" biçiminde sorulsa daha anlamlı olur. Kendini tanıyan kimse gerçek duygu ve düşüncelerinin farkındadır. Hiç düşündünüz mü, kendini tanımayan bir romancı başkalarını nasıl anlatabilir ki?

**Bu parçada aşağıdaki anlatım biçimlerinden hangisi ağır basmaktadır?**

- A) Açıklama B) Betimleme  
C) Öyküleme D) Tartışma

16. Kişinin anlattıklarının önceki anlattıklarıyla çelişmemesine, yaptıklarıyla ters düşmemesine - - - - denir.

**Bu cümlede boş bırakılan yere aşağıdakilerden hangisi getirilmelidir?**

- A) inandırıcılık B) akıcılık  
C) özlülük D) tutarlılık

17. Aşağıdaki cümlelerin hangisinde dolaylı anlatıma başvurulmuştur?

- A) Teyzem bu akşam eve erken gelmem gerektiğini söyledi.  
B) Mevlana: "Ne kadar bilersen bil, bildiklerin karşısındakinin anlayabildiği kadardır." demiş.  
C) Babam bana, her zaman dürüst olmalısın, der.  
D) Müdür: "Meslek ahlakı yabana atılacak bir kavram değildir." dedi.

18. Aşağıdaki cümlelerin hangisi bir metnin giriş cümlesi olamaz?

- A) Ağaç sevgisi de bizim önemli değerlerimizden biridir.  
B) Sanatçı toplumun sorunlarına duyarlı olmalıdır.  
C) Okumak bir ihtiyaçtır.  
D) Çatık kaşları, yaralı yüzüyle insanı ürküten bir havası vardı.

## 2. OTURUM

### 19. Aşağıdaki cümlelerin hangisinde anlatım bozukluğu vardır?

- A) Yazar, 1 Ocak 1986 tarihinde ilk romanını yayımlamış.
- B) Olay, bir hastane odasında geçer.
- C) Karanlıkta göz yordamıyla ilerlemeye çalışıyorduk.
- D) Büyüklere gereken saygıyı göstermeli, onları incitmemeliyiz.

### 20. Aşağıdakilerden hangisi tartışmaların amaçlarından biri değildir?

- A) Sorunları paylaşmak
- B) Fikir alışverişinde bulunmak
- C) Var olan bir sorunu çözmek
- D) Fikirlerimizde ısrar edip onu karşı tarafa kabul ettirmek

### (614) SEÇ. DİL VE ANLA. – 4

### 1. “Tatlı” sözcüğü aşağıdaki cümlelerin hangisinde sıfat görevinde kullanılmıştır?

- A) Yediğimiz meyvelerin hepsi tatlıydı.
- B) Acısıyla tatlısıyla birçok şey yaşadık.
- C) Gece tatlı bir uykudan uyandırdılar beni.
- D) Bu adam ne de tatlı konuşuyor.

### 2. Aşağıdaki cümlelerde geçen altı çizili sözcüklerden hangisi soyut anlamlıdır?

- A) Yeşil bir meydanın kenarına vardık.
- B) Ağacın gölgesinde çocuklar oturuyordu.
- C) Akşam vapuru bugün geç geldi.
- D) Bu zamanda kuşlar cıvı cıvı öterdi.

### 3. Aşağıdakilerin hangisinde diğerlerinden farklı bir isim tamlaması kullanılmıştır?

- A) Güz mevsiminde buralarda pek kimse kalmaz.
- B) Denizin üzerinde uçuşan kuşlar güzel bir manzara oluşturuyordu.
- C) Kuş sesleri her taraftan kolaylıkla duyulabiliyordu.
- D) Kaldırım taşları bu sene yenilenmişti.

4. Sonbaharda birtakım insanların, ellerinde bir kafes, adanın tek tepesine doğru gittiklerini gördüm. İçim cız ederdi. Ellerinde birbirine yapışmış acayip çomaklar vardı. Bunları bir ufacık ağacın altına çığırkan kafesiyle bırakırlar, ağacın her dalına ökseleri bağlardı. Hür kuşlar, kafesteki çığırkan kuşun feryadına dostluk, arkadaşlık, yalnızlık sesine doğru gelirlerdi. Adamlar biraz beklerler, ardından ökselere takılmış kuşları toplarlardı.

### Bu parçada aşağıdaki anlatım türlerinden hangisi kullanılmıştır?

- A) Açıklama - Tartışma
- B) Açıklama - Betimleme
- C) Tartışma - Öyküleme
- D) Öyküleme - Betimleme

5. Derin derin soluk alarak hep ileri doğru yekinen atlar, pulluk çizgisine gömülmüş yürürlerken tıpkı yer altından çıkıyor gibiydi. Kar tanecikleri hayvanların sıcak, gergin sırtlarına düşer düşmez eriyor, böğürlerinden aşağı küçük seller akıyordu. Cıvıklaşan toprak kayıp gidiyordu ayaklarının altından.

### Bu parçanın anlatımında aşağıdaki duyulardan hangisine ait ayrıntılara yer verilmiştir?

- A) Görme - Dokunma
- B) İşitme - Koklama
- C) Koklama - Görme
- D) Dokunma - İşitme

6. Bu memleketin öyle güzel tarafları var ki... Her taraf yemyeşil. Bahçemde renk renk çiçekler açıyor, odamın pencerelerine sarmaşıklar tırmanıyor. Hele bahçemizin önündeki dik bayır, âdeta bir zümrüt çağlayanıydı. Bu dalgalı yeşillik içinde gelincikler, taze yaralar gibi kanıyor.

### Bu parçanın anlatımıyla ilgili olarak aşağıdakilerden hangisi söylenemez?

- A) Benzetme yapılmıştır.
- B) Eksilteli cümle kullanılmıştır.
- C) Karşılaştırmaya başvurulmuştur.
- D) İzlenimler aktarılmıştır.

7. Pencerelerin tahta kepenkleri sımsıkı kapalı, kocaman bir odaydı burası. Odanın bir köşesinde dolap vazifesi gören eski bir ocak... Eskilikten delik deşik olmuş kirli kaplamalar, yağmurdan çürümüş, tahtaları sarkmış simsiyah bir tavan, bir köşede içine kırık dökük konmuş bir ocak...

### Bu parçanın anlatımında aşağıdakilerden hangisine başvurulmuştur?

- A) Açıklama B) Öyküleme
- C) Betimleme D) Tartışma

### 8. Aşağıdakilerin hangisinde soru anlamı bir zarfla sağlanmıştır?

- A) Bizim eve neden gelmediniz?
- B) Nasıl bir otel arıyorsunuz?
- C) Bunları size kim anlattı?
- D) Söylediklerimi anlamayan var mı?

9. Dümbüllü İsmail Efendi oyununu sergilerken şarkı söylediği sırada biri sahneye salatalık atar. Seyirciler şaşırır, bir yandan da sanatçının bu münasebetsiz harekete nasıl karşılık vereceğini beklerler. Dümbüllü yere eğilir, salatalığı eline alır:  
- Birisi kartvizitini yollamış, der.

### Bu metinde aşağıdaki anlatım biçimlerinden hangisine başvurulmuştur?

- A) Mizahi anlatım
- B) Söyleşmeye bağlı anlatım
- C) Lirik anlatım
- D) Düşsel (fantastik) anlatım

10. (I) Köyün dar sokakları içine girmiştik, evleri şimdi daha iyi görebiliyordum. (II) Bu evler; yağmurdan çürüyüp kararmış, sert rüzgârlardan bir yana çarpılmış hâldeydi. (III) Altlarında dört direkten ibaret ahırlar, üstlerinde asma merdivenle çıkılan bir iki oda... (IV) Bu köy, şimdiye kadar gördüğüm köylerden hiçbirisine benzemiyordu.

### Bu parçada numaralanmış cümlelerin hangisinde betimleyici anlatım özellikleri yoktur?

- A) I. B) II. C) III. D) IV.

## 2. OTURUM

11. Aşağıdakilerin hangisinde ikileme isim olarak kullanılmıştır?

- A) Yavaş yavaş gidiyordu arabamız.
- B) Mavi maviydi gökyüzündeki bulutlar.
- C) Uzun uzun anlattı yaşadıklarını.
- D) Koşa koşa gelmişti yanıma.

12. “Bu” sözcüğü aşağıdakilerin hangisinde diğerlerinden farklı bir görevde kullanılmıştır?

- A) Bu akşam sizi aramızda görmek istiyoruz.
- B) Bu bahçenin toprağı daha güzel.
- C) Bu senin söylediklerinle ilgili değil.
- D) Bu kapının kilidini bulamadım.

13. Aşağıdaki dizelerin hangisinde kişi zamiri vardır?

- A) Çocuk alınlarda duyulan sıcak öpücük
- B) Ve birden kalbe çırpınışlar veren hatıra
- C) Beyaz eteklerinle bana görüldüğün an
- D) Gurbet ademden kara, hasret ölümünden acı

14. Dağlara, ovalara doğru koştu o gün kimimiz  
Sarmaşıklar yavaş yavaş uzuyordu  
Bir pencere yavaş yavaş açılıyordu  
Bugün işte bir bunu biliyoruz.

**Bu dizelerde aşağıdaki zamir türlerinden hangileri vardır?**

- A) Kişi zamiri – Belgisiz zamir
- B) Soru zamiri – İşaret zamiri
- C) Kişi zamiri – Soru zamiri
- D) Belgisiz zamir – İşaret zamiri

15. Aşağıdaki dizelerin hangisinde ünlem vardır?

- A) Kül bağlar içirimde bu kızıl kor yığını
- B) Ah, birçok şey hatırlatan erik ağacı
- C) Ben ömrümü harcadım bu yollar tükenmedi
- D) Düştüğüm yollar gibi sonsuzdur tasam

16. Aşağıdaki cümlelerin hangisinde eylem haber kipiyle çekimlenmiştir?

- A) Çok uzun bir süredir tercümeyle uğraşıyorum.
- B) Her romanın öncelikle bir sanat eseri olduğu unutulmamalı.
- C) Bu konu diğer konularla karıştırılmasın.
- D) Size elimizden geldiği kadar yardımcı olmaya çalışalım.

17. Aşağıdakilerin hangisinde eylem geniş zamanın hikâyesiyle çekimlenmiştir?

- A) Ben mutlu olduğum zaman da ağlardım.
- B) Bir berrak kış akşamını hatırlıyorum.
- C) Beni hiç unutmayacağını düşünmüştüm.
- D) Seni her zaman kapıda karşılıyordu.

18. Aşağıdaki dizelerin hangisinde isim-fiil vardır?

- A) Bense büyük bulutlar gibi ağlamak,  
Ve geniş yaylalar gibi gülmek istiyorum
- B) Boşuna çekilmedi bunca acılar İstanbul  
Bulutların ardında damla damla eser
- C) Bir ak kuş gelip de kondu kara çatıya  
Dünyayı böylesine sardı mı kollar
- D) Etimiz, salatamız olacak soframızda  
Dudağında tebessümün en güzeli

19. (I) Tilkinin biri bir gün bağlar arasında gezerken etrafı çevrilmiş bir bağa varıyor. (II) Duvarın dibinden, su deliğinden içeriye giriyor. (III) Bakıyor ki üzümler iyice ermiş, üzümleri güzelce yiyor. (IV) Artık karnı şişmiş, bağdan çıkma imkânı kalmamış. (V) Öldü bellesinler diye dişlerini çıkarıp sırt üstü yatmış, böylece kurtulmuş.

**Bu parçada numaralanmış cümlelerin hangilerinde eylemsi kullanılmamıştır?**

- A) I ve II. B) II ve III.
- C) III ve IV. D) IV ve V.

20. Aşağıdaki cümlelerden hangisinin yüklemi nesnesine göre çatı bakımından farklıdır?

- A) Üç gündür bahçıvanlar fidanları buduyordu.
- B) Toprak kokusunu içimize çekiyorduk.
- C) Güzelim manzara bir tabloyu andırıyordu.
- D) İzçiler bu gece tepenin eteğinde kalmışlardı.

### (711) İSLAM TARİHİ – 1

1. “Zaman, başı ve sonu olmayan bir şeydir. Fakat insan zamanı birimlemeyi istedi. Bu konuda en iyi vasıta olarakta - - - - seçti.”

Muhammed Hamidullah  
İslam Tarihine Giriş, s.17

**Muhammed Hamidullah’ın vermiş olduğu bilgideki eksiklik, aşağıdakilerden hangisiyle giderilebilir?**

- A) Ay’ı
- B) Güneş’i
- C) İsa’nın doğumunu
- D) Kavimler Göçü’nü

2. Sıffin Vakası boyunca ortaya çıkan olayları ve bunların arka planlarını, aşağıdaki hangi ilahiyatla ilgili bilim dalı inceler?

- A) Siyer
- B) Hadis
- C) Meğazi
- D) Mezhepler Tarihi

3. Arap Yarımadası’nın İslam Dönemi’nde olduğu gibi İslamiyet öncesi dönemde de kutsal sayılan bölgesi, aşağıdakilerden hangisidir?

- A) Necit B) Hicaz
- C) Yemen D) Hadramut

## 2. OTURUM

4. Müşriklerin, aşağıdaki hangi konudaki ısrarcılığından dolayı Kur'an-ı Kerim'deki Casiye Suresi'nin "Dediler ki: Hayat ancak bu dünyada yaşadığımızdır. Ölürüz ve yaşarız. Bizi ancak zaman helâk eder..." mealindeki ayeti nazil olmuştur?
- A) Çok eşlilik  
B) Yıldızlara tapma  
C) Ahiret hayatına inanmama  
D) Kız çocuklarını diri diri gömme
5. Dedesinin vefatı üzerine Hz. Muhammed'i himayesi altına alan kişi, aşağıdakilerden hangisidir?
- A) Annesi Âmine  
B) Amcası Ebu Talip  
C) Sütanesi Halime  
D) Amcası Ebu Cehil
6. Aşağıdakilerden hangisi Hz. Muhammed Dönemi'nde gerçekleşmiştir?
- A) Kur'an'ın toplanması  
B) Cemel Vakası  
C) Kerbela Olayı  
D) Hicret
7. • Ukâz  
• Mina  
• Suhâr  
• Debâ
- Verilen kavramlar, aşağıdakilerden hangisiyle ilişkilendirilebilir?
- A) Ünlü Arap kabileleri  
B) Kâbe'deki dört büyük put  
C) Meşhur panayır merkezleri  
D) Arap Yarımadası'nda kurulan devletler
8. Hanifler, aşağıdaki hangi peygamberin dinini yaşatmaya çalışırlardı?
- A) Hz. İdris B) Hz. Musa  
C) Hz. Âdem D) Hz. İbrahim
9. Allah, Hz. Muhammed'e peygamberliğinin kaçınıcı yılında İsrâ ve Miraç mucizeleri ile ilahî lütuf ve ihşanlarda bulunmuştur?
- A) 21. B) 15. C) 11. D) 8.
10. Mekkelilerin, Bedir Savaşı'nın intikamını almak ve Müslümanları ortadan kaldırmak istemeleri, aşağıdaki hangi savaşın nedenlerinden birini oluşturur?
- A) Mute B) Uhut  
C) Hendek D) Huneyn
11. Hz. Muhammed'in son seferi, aşağıdakilerden hangisidir?
- A) Tebük B) Taif  
C) Mekke D) Hayber
12. Hz. Ebu Bekir Dönemi'nde Kur'an-ı Kerim'in özgün hâlinin korunması amacıyla, aşağıdakilerden hangisi yapılmıştır?
- A) Kur'an-ı Kerim cem edilmiştir.  
B) Kur'an ayetleri deri parçaları üzerine yazılmıştır.  
C) Kur'an-ı Kerim çoğaltılarak valiliklere gönderilmiştir.  
D) Kur'an-ı Kerim ayetlerinin tüm Müslümanlardan ezberlenmesi istenmiştir.
13. Kıbrıs Adası, hangi halife döneminde İslam egemenliğine girmiştir?
- A) Hz. Ali B) Hz. Ebu Bekir  
C) Hz. Ömer D) Hz. Osman
14. Cemel Olayı'nda Hz. Ali, aşağıdakilerden hangisiyle savaşmıştır?
- A) Abdullah bin Zübeyr  
B) Hz. Muaviye  
C) Hz. Aişe  
D) Hz. Osman
15. İslam Devleti'nin başkenti, aşağıdaki hangi halife döneminde Medine'den Kûfe'ye taşınmıştır?
- A) Hz. Ali  
B) I. Velit  
C) Hz. Ebu Bekir  
D) Yezit bin Muaviye
16. Bizans'a bağlı Ermeniyeli İslam topraklarına katan Emevi halifesi, aşağıdakilerden hangisidir?
- A) III. Yezit bin Velit  
B) Mervan bin Hakem  
C) Hişam bin Abdülmelik  
D) Abdülmelik bin Mervan
17. Arap olmayan Müslümanlar (Mevali), hukuken Müslüman Araplarla, aşağıdaki gelişmelerden hangisiyle eşit hâle gelmiştir?
- A) Abbasi Devleti'nin kurulmasıyla  
B) Emevi Devleti'nin yıkılmasıyla  
C) İslamiyet'i kabul etmekle  
D) İstanbul'un fethiyle
18. Hutbelerde Hz. Ali ve evladına hakaret etme durumuna son veren Emevi halifesi, aşağıdakilerden hangisidir?
- A) Yezit bin I. Velit  
B) Ömer bin Abdülaziz  
C) Süleyman bin Abdülmelik  
D) II. Mervan bin Muhammed
19. İlk İslam fetihlerinin son halkası, aşağıdakilerden hangisidir?
- A) İber Yarımadası'nın fethi  
B) Kuzey Afrika'nın fethi  
C) İstanbul'un fethi  
D) Şam'ın fethi
20. Müslümanlarla İspanyollar arasında 47 maddelik Gırnata'nın Teslim Antlaşması hangi yıl imzalanmıştır?
- A) 1355 B) 1487  
C) 1491 D) 1502

## 2. OTURUM

### (712) İSLAM TARİHİ – 2

1. İslam tarihinde önemli bir yeri olan Talas Savaşı, aşağıdakilerden hangileri arasında olmuştur?

- A) Arap - Çin
- B) Afgan - Çin
- C) Bizans - Çin
- D) Bizans - Arap

2. İslam dünyasında Emevilerin yıkılmasından sonra Abbasilerin kurulması Türkler açısından, aşağıdaki gelişmelerin hangisine sebep olduğu söylenemez?

- A) Halifelik Türk soyuna geçmiştir.
- B) Türklerin İslam dinine hizmetleri artmıştır.
- C) Türkler arasında İslamiyet hızla yayılmıştır.
- D) İslamiyet'in en büyük koruyucusu Türkler olmuştur.

3. Müslüman Araplarla Türkler arasında ilk ciddi çatışmaların meydana geldiği yıl, aşağıdakilerden hangisidir?

- A) 621
- B) 635
- C) 644
- D) 653

4. İslam öncesinde Türkler, aşağıdakilerden hangisini "Ulu gün" şeklinde isimlendirmişlerdir?

- A) Cihat
- B) Kıyamet
- C) Cennet
- D) Cehennem

5. Selden dolayı duvarları yıkılan Kâbe, aşağıdaki hangi Osmanlı padişahı döneminde tümünden yenilenmiştir?

- A) I. Selim
- B) IV. Murat
- C) I. Süleyman
- D) II. Abdülhamit

6. Aşağıdaki devletlerden hangisinin yaptırdığı mimari eserler daha çok Bursa, Edirne, İstanbul ve Balkanlardaki şehirlerde yoğunlaşmıştır?

- A) Memlûk
- B) Selçuklu
- C) Osmanlı
- D) Karahanlı

7. Tarihçiler, "Kerbela'dan sonra - - - daha şiddetli ve daha acı bir facia yoktur." demişlerdir.

Verilen cümlede boş bırakılan yere, aşağıdakilerden hangisi yazılmalıdır?

- A) Şam'dan
- B) Fah'dan
- C) Basra'dan
- D) Bağdat'tan

8. Araplar tarafından aşağıdakilerden hangisi "el Kubbetü't - Türkiyye" diye adlandırılmıştır?

- A) Türk çadırı
- B) Samarra kenti
- C) Topkapı Sarayı
- D) İstanbul'daki Ayasofya

9. Talas Savaşı sonrasında Arapların aşağıdaki hangi Türk boyuyla ilişkileri dostça gelişmemiştir?

- A) Karluklarla
- B) Kıpçaklarla
- C) Akhunlarla
- D) Hazarlarla

10. Oğuzlar arasında İslamiyet, kaçınıcı yüzyılda hâkim bir din hâline gelmiştir?

- A) 8. yy
- B) 9. yy
- C) 10. yy
- D) 11. yy

11. Aşağıdaki devletlerden hangisi ismini "kurulduğu şehirden" almıştır?

- A) Karahanlı Devleti
- B) Osmanlı Devleti
- C) Gazne Devleti
- D) Babür Devleti

12. Aşağıdaki Anadolu Selçuklu sultanlarından hangisi Gürcü asıllı Hristiyan eşi için saraya kilise yaptırmıştır?

- A) I. Mesut
- B) I. Kılıçaslan
- C) I. Alaeddin Keykubat
- D) II. Gıyasettin Keyhüsrev

13. Aşağıdakilerden hangisi Haçlı Seferleri'nin ekonomik nedenlerinden biridir?

- A) Avrupa'da toprak sahibi olmayan kimselerin toprak sahibi olmak istemeleri
- B) Papa ve din adamlarının nüfuzlarını artırmak istemeleri
- C) Avrupalıların Türkleri Anadolu'dan çıkarma arzuları
- D) Şövalyelerin macera aramaları

14. Osmanlı Devleti, Hindistan'da Gucerat ve Kaliküt'teki Müslümanların yardım isteği üzerine donanmasını, aşağıdaki hangi sadrazamının komutasında onlara göndermiştir?

- A) Çandarlı Ali Paşa
- B) Hadım Süleyman Paşa
- C) Köprülü Fazıl Ahmet Paşa
- D) Merzifonlu Kara Mehmet Paşa

15. Hindistan'da İslamiyeti yayma faaliyetlerini başlatan ilk devlet, aşağıdakilerden hangisidir?

- A) Babür
- B) Abbasi
- C) Emevi
- D) Gazne

16. 1958 yılında cumhuriyet rejimine geçen Irak'ın ilk devlet başkanı, aşağıdakilerden hangisidir?

- A) Abdülkerim Kasım
- B) Saddam Hüseyin
- C) Ali Geylani
- D) Nuri Said

17. İsrail, Haziran 1982'de Savunma Bakanı Ariel Sharon'un etkisiyle, aşağıdaki yerlerden hangisini işgal etmiştir?

- A) Irak
- B) Kuveyt
- C) Lübnan
- D) Suriye

18. Aşağıdaki devletlerden hangisinin başkenti Dakka'dır?

- A) Malezya
- B) Endonezya
- C) Afganistan
- D) Bangladeş



## 2. OTURUM

19. Millî Eğitim Bakanlığımıza bağlı faaliyet gösteren "Türkiye Türkçesi Eğitim-Öğretim Merkezi", aşağıdaki devletlerin hangisinde kurulmuştur?

- A) Tacikistan
- B) Azerbaycan
- C) Özbekistan
- D) Kırgızistan

20. " - - - - , Basra Körfezi ülkelerinde üretilen petrolün dünya pazarlarına ulaşmasında bir kapıdır."

Verilen bilginin doğru olabilmesi için boş bırakılan yere, aşağıdakilerden hangisi getirilmelidir?

- A) Bengal Körfezi
- B) Hürmüz Boğazı
- C) Süveyş Kanalı
- D) Cebel-i Tarık Boğazı

### (931) SİYER – 1

1. Aşağıdaki surelerden hangisinde Mekkelilerin geçim kaynaklarından bahsedilmektedir?

- A) Mâ'ûn
- B) Kureyş
- C) Kâfirûn
- D) Fatıha

2. Hacer-i Esvet ile ilgili aşağıdaki bilgilerden hangisi doğrudur?

- A) Kâbe'nin içinde bulunur.
- B) Hz. Hacer'in makamıdır.
- C) Vakfe yapılan mekândır.
- D) Tavafın başlangıç noktasıdır.

3. Aşağıdakilerden hangisi Hz. Muhammed (sav.)'in atalarından biri değildir?

- A) Kusay
- B) Haşim
- C) Huveylid
- D) Abdülmuttalip

4. Aşağıdakilerden hangisi Hz. Muhammed (sav.)'in sütkardeşleridir?

- A) Fatıma-Kasım
- B) Şeyma-Abdullah
- C) Zeynep-İbrahim
- D) Rukiye-İbrahim

5. Aşağıdakilerden hangisi Hılfu'l-Fudul'un kuruluş amaçlarından biri değildir?

- A) Mekke'nin itibarını korumak
- B) Ticari ortaklık oluşturmak
- C) Mazlumlara yardım etmek
- D) Haksızlığa engel olmak

6. Hz. Muhammed (sav.)'in kendisinden sonra vefat eden çocuğu hangisidir?

- A) Hz. Fatıma
- B) Hz. İbrahim
- C) Hz. Abdullah
- D) Hz. Ümmü Gülsüm

7. Dârulerkam ile ilgili aşağıda verilen bilgilerden hangisi doğrudur?

- A) Müşriklerin toplandıkları mekânın adıdır.
- B) Boykot döneminde Müslümanların sığındığı mahalledir.
- C) Davet dönemi başlarında Müslümanların toplandığı evdir.
- D) Habeşistan'a hicret eden Müslümanların yaşadığı bölgedir.

8. Mekke müşriklerin Hz. Peygamber'e yönelttikleri teklifler arasında aşağıdakilerden hangisi yoktur?

- A) Kendisini Mekke'ye lider yapmak
- B) O'na maddi imkânlar sağlamak
- C) Bir yıl putlara bir yıl da Allah'a ibadet etmek
- D) İncancını serbestçe yaşamasına izin vermek

9. Mekke müşriklerin peygamberliğe Velid b. Muğire ya da Ebu Mesud'u layık görmelelerinin sebebi aşağıdakilerden hangisidir?

- A) Zengin ve çok erkek çocuk sahibi olmaları
- B) Yaşları itibarıyla daha uygun olmaları
- C) Hicaz bölgesinde yaşıyor olmaları
- D) Arapların tanıdığı kişiler olmaları

10. Habeşistan'ın hicret yeri olarak seçilmesinde aşağıdakilerden hangisinin etkisi olmamıştır?

- A) Hükümdarının adil oluşunun
- B) Halkının Hristiyan olmasının
- C) Müslümanların davet edilmesinin
- D) Peygamber tarafından tavsiye edilmiş olmasının

11. Herşeyin yaratıcısının Allah olduğuna inanmasına rağmen putları O'na eş tutan kimselere ne denir?

- A) Kafir
- B) Müşrik
- C) Mü'min
- D) Münafık

12. Aşağıdakilerden hangisi Hz. Muhammed (sav.)'in doğduğu ortamın özelliklerindedir?

- A) Edebiyat ve güzel söz söyleme sanatı gelişmişti.
- B) Kadınlar ile kız çocuklarına değer verilirdi.
- C) Haniflik en yaygın inanç biçimiydi.
- D) Okuma-yazma oranı yüksekti.

13. Aşağıdakilerden hangisi Peygamberimizin kızlarından biri değildir?

- A) Ümmü Gülsüm
- B) Zeynep
- C) Rukiye
- D) Aişe

14. Arap toplumunda göçebe hayatı yaşayan ve hayvancılıkla uğraşanlara ne ad verilirdi?

- A) Kıptî
- B) Bedevî
- C) Hadarî
- D) Mağribî

15. Aşağıdakilerden hangisi peygamberimizin anne tarafından dedesidir?

- A) Vehb b. Abdümenaf
- B) Abdullah b. Cüdan
- C) Varaka b. Nevfel
- D) Sa'd b Bekir

## 2. OTURUM

(932) SİYER – 2

16. İslam'a davetin gizli dönemi hangi yıllar arasındadır?

- A) 610-614 B) 613-615  
C) 610-613 D) 613-616

17. 615 yılında Habeşistan'a ilk hicret eden kabilede aşağıdaki sahabilerden hangisi yer almıştır?

- A) Hz. Osman  
B) Hz. Ebu Bekir  
C) Zübeyr b. Avvam  
D) Abdurrahman b. Avf

18. İslam öncesi Arap toplumunda kabile meclisinin toplandığı yer aşağıdakilerden hangisidir?

- A) Darü'n Nedve  
B) Darü'l Erkam  
C) Zü'l Mecaz  
D) Hilf

19. Müslümanların hicret etmesini engelleyemeyen müşrikler Hz. Peygamber hakkında aşağıdaki kararlardan hangisini almışlardır?

- A) Hapsetmek  
B) Sürgün etmek  
C) Suikast tertip etmek  
D) Gitmesine izin vermek

20. "Ey örtüsüne bürünmüş yatan (Muhammed)! Kalk ve uyar. Rabbini yücelt. Giydiklerini temiz tut. Kötü şeyleri terk et."  
(Müddessir suresi, 1-5. ayetler)

Bu ayetlerde peygamberimize verilen görev aşağıdakilerden hangisidir?

- A) Tefsir (Yorumlama)  
B) Tebyin (Açıklama)  
C) Tebşir (Müjdeleme)  
D) Nübüvvet (Peygamberlik)

1. Aşağıdakilerden hangisi Medine Sözleşmesi'nin amaçlarından biri değildir?

- A) Medine şehrinin savunmasını güçlendirmek  
B) Medine'yi ticaret merkezine dönüştürmek  
C) Şehirde idari ve siyasi bir birliklik oluşturmak  
D) Saldırlara karşı Müslümanların güvenliğini sağlamak

2. Aşağıdakilerden hangisi Mekke'nin Fethi'nin sonuçlarından biri değildir?

- A) Mekkelilerin mallarına ganimet olarak el konulmuştur.  
B) Mekke ve Kâbe Müslümanların hâkimiyetine girmiştir.  
C) Ebu Süfyan ve birçok Mekkeli, Müslüman olmuştur.  
D) Mekkeli müşrikler tehdit olmaktan çıkmıştır.

3. Aşağıdakilerden hangisi namaza çağırının nasıl olacağı ile ilgili Hz. Peygamber'in sahabe ile yaptığı görüşmede sunulan önerilerden biridir?

- A) Sokaklarda davul çalma  
B) Çevreye haberciler gönderme  
C) Yüksek bir yerde ateş yakma  
D) Kur'an'dan belli bir bölüm okuma

4. Hz. Peygamber'e aşağıdaki namazların hangisini kıldırırken kıblenin Kâbe olarak değiştirildiği vahyi nazil olmuştur?

- A) Öğle B) Sabah  
C) İkinci D) Yatsı

5. Aşağıdakilerden hangisi Hz. Peygamber'in Mekkeli müşriklerle silahlı mücadele kararı almasında etkili olmuştur?

- A) Muhacirlerin Mekke'ye olan özlemleri  
B) Müslümanların Kâbe'yi ziyaret etmek istemeleri  
C) Muhacirlerin Mekke'deki mallarına el konulup yağmalanması  
D) Müslümanların Mekke'deki ticari pazardan pay almak istemeleri

6. Aşağıdakilerden hangisi Bedir Savaşı'nın sonuçlarından biri değildir?

- A) Müslümanların zaferi ile sonuçlanmıştır.  
B) Mekke'nin Fethi'nin önündeki engeller kalkmıştır.  
C) İslamiyet'in daha hızlı yayılmasının yolu açılmıştır.  
D) Müslümanların kendilerine güvenleri artmıştır.

7. Gassanlı bir başkan olan Busra valisinin, İslam'a davet mektubunu getiren elçiyi öldürmesinin neden olduğu savaş aşağıdakilerden hangisidir?

- A) Tebük B) Uhud  
C) Taif D) Mûte

8. Aşağıdakilerden hangisi Yahudilerin Medine'den çıkarılma nedenlerinden biri değildir?

- A) Hz. Peygamber ile yapılan antlaşmayı bozmaları  
B) Müslümanlara karşı Kureyş'i tahrik etmeleri  
C) Kendi dinlerini yaşamada ısrar etmeleri  
D) Hz. Peygamber'e suikast tertiplenmeleri

9. I. Uhut Savaşı  
II. Huneyn Savaşı  
III. Taif kuşatması  
IV. Mekke'nin Fethi

Bu olayların kronolojik sıralanması hangisidir?

- A) I.-IV.-II.-III.  
B) I.-II.-III.-IV.  
C) II.-I.-III.-IV.  
D) IV.-III.-II.-I.

10. Gazvetü'l-Üsre (Zorluk Gazası) de denilen gazve aşağıdakilerden hangisidir?

- A) Mute Savaşı  
B) Tebük Seferi  
C) Taif kuşatması  
D) Bedir Savaşı

## 2. OTURUM

11. Hz. Muhammed (sav.)'in hayatında kardeşleştirme diye bilinen "muahat" üç kez yapılmıştır.

**Aşağıdakilerden hangisi bunlardan biri değildir?**

- A) Muhacir ve Ensar'ın kardeşleştirilmesi
- B) Müslümanlarla Ehli Kitabın kardeşleştirilmesi
- C) Evs ve Hazreç kabilelerinin kardeşleştirilmesi
- D) İslam ilk yıllarında Müslümanların kardeşleştirilmesi

12. **Aşağıdakilerden hangisi "Kardeşlik Antlaşması"nın sonuçlarından biri değildir?**

- A) Ensar- Muhacir arasında fikir birliği sağlanmıştır.
- B) Kardeşlik anlayışı genişleyerek tüm müminleri içine almıştır.
- C) Medine ekonomisi zayıflamış, halkın alım gücü düşmüştür.
- D) Muhacirler Medine'deki hayatlarına daha kolay intibak etmişlerdir.

13. **Mescid-i Nebi'nin aşağıdaki fonksiyonlarından hangisi günümüzde devam etmemektedir?**

- A) İlim öğretilmesi
- B) İbadet yeri olması
- C) Vaaz ve sohbet edilmesi
- D) Devlet işlerinin yürütülmesi

14. **Medine Vesikası aşağıdaki sahabelerden hangisinin evinde karara bağlanmıştır?**

- A) Enes b. Malik
- B) Mus'ab b. Umeyr
- C) Ebu Eyyûp el Ensârî
- D) Abdullah b. Ümmü Mektum

15. **Hz. Peygamberin yaptırdığı ilk nüfus sayımında Medine'deki Müslümanların sayısı ne kadar çıkmıştır?**

- A) On bin
- B) Yedi bin
- C) Üç bin
- D) Bin beş yüz

16. Kâbe'nin tamiri esnasında çıkan anlaşmazlıkta Hz. Muhammed'in hakem olması, tarafları sevindirmişti.

**Onları sevindiren Hz. Muhammed (sav.)'in hangi özelliğidir?**

- A) Sabrı
- B) Adaleti
- C) Cesareti
- D) Merhameti

17. Hz. Peygamber, davasından vazgeçmesi karşılığında kendisine teklif edilen dünyalıkları kabul etmemiştir. "Güneş'i sağ elime, Ay'ı sol elime verseler yine de bu davamdan vazgeçmem" demiştir.

**Bu olayda Hz. Peygamberin hangi özelliği öne çıkmaktadır?**

- A) Diğerkamılığı
- B) Merhameti
- C) Kararlılığı
- D) Adaleti

18. Ahzâb suresinin 33. ayeti nazil olunca Hz. Peygamber yanında bulunan yakınlarını kollarının altına alarak "Allah'ım, bunlar benim Ehl-i Beyt'imdir. Onları günahlardan temizle" demiştir.

**Aşağıdakilerden hangisi bu olayda orada bulunanlardan biri değildir?**

- A) Hz. Hatice
- B) Hz. Fatıma
- C) Hz. Hasan
- D) Hz. Hüseyin

19. **Hz. Muhammed (sav.) aşağıdaki konulardan hangisi hakkında kesin bir bilgi vermemiştir?**

- A) Namazların kaçır rekât olduğu
- B) İbadetlerin yapılış şekilleri
- C) Kıyametin kopacağı saati
- D) Kimlerin zekât vereceği

20. **Hz. Peygamberin aşağıdaki sözlerinden hangisinde ilim sahiplerine övgü vardır?**

- A) Allah beni bir muallim olarak göndermiştir.
- B) İlim öğrenmek kadın-erkek her Müslüman'a farzdır.
- C) İlim, mü'min'in yitik malıdır onu nerede bulursa alsın.
- D) Alimler gökteki yıldızlar gibidir. Yıldızlar nasıl karanlıkta yol gösterirse, alimlerde yeryüzünde rehberdirler.

### (974) GİRİŞİMCİLİK – 1

1. **Aşağıdakilerden hangisi üretim faktörlerinden biridir?**

- A) Doğa
- B) Talep
- C) Hizmet
- D) Kültür

2. **Aşağıda verilenlerden hangisi işletmenin özel amaçlarından?**

- A) Kâr sağlamak
- B) Topluma hizmet etmek
- C) İşletmenin yaşamını devam ettirmek
- D) Mal ve hizmetlerin kalitesini sürekli arttırmak

3. **Aşağıdakilerden hangisi planlamada uyulacak kural olarak görülmez?**

- A) Uygun bir süreyi kapsamalıdır.
- B) Kesin uygulanabilir olmalıdır.
- C) Basit ve anlaşılır olmalıdır.
- D) Dengeli olmalıdır.

4. **Etkili denetimin ilkelerine aykırı bir açıklama hangi seçenekte verilmiştir?**

- A) Denetleme gizli olmalıdır.
- B) Denetleme esnek olmalıdır.
- C) Denetleme şekli işletmeye uygun olmalıdır.
- D) Denetlenme standartları önceden belirlenmelidir.

5. **Aşağıdakilerden hangisi bir işletmenin şirket olma şartlarına uygun değildir?**

- A) Ortak bir amaç olmalıdır.
- B) Ortaklar arası bir anlaşma olmalıdır.
- C) Şirket kuranların sayısı en az bir olmalıdır.
- D) Ortak üretim elemanlarına sahip olmalıdır.

6. **Limitet şirketler en az kaç ortak tarafından kurulabilir?**

- A) 2
- B) 4
- C) 7
- D) 10

## 2. OTURUM

7. Aşağıdakilerden hangisi İktisadi Devlet Teşekkülü değildir?

- A) Boru Hatları ile Petrol Taşıma AŞ
- B) Türkiye Kömür İşletmeleri
- C) Devlet Malzeme Ofisi
- D) Türkiye Cumhuriyeti Devlet Demiryolları

8. Bir işletmenin diğer işletmeye ait hisse senetlerini satın alarak o işletmenin hukuki varlığına son vermesiyle sağladığı tam birleşmeye ne ad verilir?

- A) Füzyon
- B) Merger
- C) Kornerler
- D) Konsernler

9. Seçici talebi yaratmaya yönelik bir reklam, aşağıda verilen reklam çeşitlerinden hangisi açısından değerlendirilmelidir?

- A) Reklam içeriği açısından
- B) Hedef kitle açısından
- C) Amaçlar açısından
- D) Yapanlar açısından

10. Satış sürecinin sunuş aşamasıyla ilgili verilen bilgilerden hangisi yanlıştır?

- A) Dikkat çekme
- B) İsteğin arza dönüşmesi
- C) İlginin isteğe dönüşmesi
- D) Satışın gerçekleştirilmesi

11. Ekonomik durumu üst düzeyde olan insanların karşılanmasını istedikleri ihtiyaçlara ne ad verilir?

- A) Emek
- B) Sermaye
- C) Lüks ihtiyaçlar
- D) Zorunlu ihtiyaçlar

12. Aşağıdakilerden hangisi talebin özelliklerinden biri değildir?

- A) Satın alma gücü
- B) Piyasanın olması
- C) Satın alma isteğinin var olması
- D) Geniş bir zaman dönemini kapsaması

13. Elektronik ticarete ne ad verilir?

- A) İnternet
- B) E-ticaret
- C) E-devlet
- D) E-posta

14. Ekonomistler, bir mal veya hizmeti elde edebilme isteğini neden talep olarak kabul etmezler?

- A) İstekler yeterli satın alma gücüyle desteklenmelidir.
- B) Arz - talep dengesi korunmalıdır.
- C) Alıcı ile satıcı birbirini tanımalıdır.
- D) Satın alma sürekli ve güdüleyici olmalıdır.

15. Ekonomistler kıt malı nasıl tanımlamışlardır?

- A) Kıymetli mallar
- B) Piyasada olmayan mallar
- C) Çok pahalı satılan mallar
- D) Fiyatı olan ve bedelini ödemek suretiyle alınabilen mallar

16. Bazı bilim adamlarınca girişimcilik kavramının yaratıcısı olarak görülen ünlü ekonomist, aşağıdakilerden hangisidir?

- A) Richard Cantillon
- B) Eli Whitney
- C) John Law
- D) Edward Harriman

17. "Girişimcilik; sürekli artan bir refah yaratan dinamik bir süreçtir."

"Girişimcilik; bir işe girişme, bunun için gerekli kaynakları düzenleme, işten doğacak riskleri ve başarısızlıkları üstlenme sürecidir."

"Girişimcilik; parasal ve kişisel tatmin ödülü karşılığında, finansal, psikolojik ve sosyal riskleri üstlenerek gerekli zaman ve çabayı harcayıp farklı değerlerde mal ve hizmet yaratma sürecidir."

Aşağıdakilerden hangisi, verilen "Girişimcilik" kavramıyla ilgili tanımların ortak noktalarından biri değildir?

- A) Tekelleşmek
- B) İnisiyatif sahibi olmak
- C) Risk ve başarısızlığı kabul etmek
- D) Piyasadaki kaynakları değerlendirmek

18. "Yasal teşviklerden yararlanarak arkadaşlarıyla pastane dükkanı açan Leyla hanım" örneğini, aşağıdaki girişimciliği teşvik eden faktörlerden hangisi için verebiliriz?

- A) Mevzuat
- B) Güven
- C) Aile
- D) Din

19. Aşağıdakilerden hangisi, girişimde bulunması gereken kişisel özelliklerinden biri değildir?

- A) Hayalcilik
- B) Esneklik
- C) Karamsarlık
- D) Kendine güven

20. Aşağıdaki kavramlardan hangisi ekonomi literatüründe "yenilenme", "yenilik" anlamlarında kullanılır?

- A) Deflasyon
- B) İnovasyon
- C) İthal ikamesi
- D) Devalüasyon

### (975) GİRİŞİMCİLİK – 2

1. Hukuki şekilleri bakımından "Adi Şirketler", aşağıdakilerden hangisinin kapsamında yer almaktadır?

- A) Özel İşletmeler
- B) Kamu İşletmeleri
- C) Karma İşletmeler
- D) Yabancı Sermayeli İşletmeler

2. Mal ve hizmet üretiminde kullanılan bedensel ve zihinsel çabaların tümüne ne ad verilir?

- A) Tabiat
- B) İş gücü
- C) Tüketim
- D) Sermaye

3. Yaratıcı müteşebbisliğe yönelik yapılan açıklamalardan hangisi yanlıştır?

- A) Yeni bir fikir vardır.
- B) Yeni bir buluş esas alınır.
- C) Kârlılığa gereken önem verilir.
- D) Mevcut işleyiş aynen sürdürülür.

## 2. OTURUM

4. Aşağıdakilerden hangisi, müteşebbisliğin işlevlerinden birini gösterir?

- A) Yeni pazarlara kapalı olmak.
- B) Yeni girdi kaynakları bulabilmek.
- C) Daha iyiyi ucuza üretmekten kaçınmak.
- D) Kamu, devlet ilişkilerinden uzak durmak.

5. Aşağıdakilerden hangisi, dünyada müteşebbisliğin önemli bir konuma sahip olmasının nedenlerinden biri değildir?

- A) Teknolojinin gelişmesini sağlar.
- B) Vergi gelirlerinin artmasına neden olur.
- C) Altyapı hizmetlerinin giderilmesini sağlar.
- D) Sadece büyük tasarrufların üretime katılmasını sağlar.

6. Bilim adamı Abraham H. Maslow'un ihtiyaç hiyerarşisine göre, fizyolojik ihtiyaçlardan sonra hangi ihtiyaçlar ortaya çıkmaktadır?

- A) Güvenlik
- B) Saygı
- C) Başarma
- D) Sevgi ve ait olma

7. Tüketim mallarının özelliklerine yönelik, aşağıdaki açıklamalardan hangisi yanlıştır?

- A) Bu malları kullananlara son tüketici denir.
- B) Örgüt ihtiyaçlarını karşılar.
- C) Başka işlemde geçerek kullanılırlar.
- D) Kişi ihtiyaçlarını karşılar.

8. Aşağıdakilerden hangisi, talebin özelliklerinden birini gösterir?

- A) Tanıma süreci
- B) Satın alma gücü
- C) Doğunluk dönemi
- D) İç ve dış çevre ile etkileşim

9. Aşağıdakilerden hangisi bir işletmenin yaşamını sürdürmesine yönelik bir hedef olamaz?

- A) İşletmenin, kısa vadeler için kurulması
- B) Normal bir kazancın hedeflenmesi
- C) İşletmenin sürekliliğinin hedeflenmesi
- D) Mümkün olduğunca büyümenin esas alınması

10. Aşağıdakilerden hangisi, işletme yönetiminde başarılı bir yöneticinin "vizyon sahipliği" niteliğini göstermektedir?

- A) Kişisel güveni ifade etme
- B) Kişisel desteğini ifade etme
- C) Etkileme ve duygularını anlayabilme
- D) Görüşlerini rahatça ifade edebilme

11. Planlama ile ilgili verilen açıklamalardan hangisi doğru değildir?

- A) Planlama bilinçli bir süreçtir.
- B) Doğabilecek riskleri en aza indirir.
- C) Geleceği şans faktörüne bırakma işidir.
- D) Geleceğe ilişkin kararların belirlenmesidir.

12. İşletmelerde insan davranışlarının hedeflenen amacı gerçekleştirmek için yönlendirilmesine ne denir?

- A) Organizasyon
- B) Motivasyon
- C) Yürütme
- D) Yönelme

13. Toplam kalite yönetiminin anlamı ve unsurları kapsamında, kalite ile ilgili yapılan açıklamalardan hangisi doğrudur?

- A) Kalite, sonuç olarak kabul edilir.
- B) Kalite, başlangıç olarak kabul edilir.
- C) Kalite, hata ayıklama olarak hedeflenir.
- D) Kalite, kontrol yapılanması olarak hedeflenir.

14. Aşağıdakilerden hangisi kamu işletmeleri kapsamında değildir?

- A) İktisadi Devlet Teşekkülleri
- B) Kamu İktisadi Kuruluşları
- C) Döner Sermaye İşletmeleri
- D) Dernek ve Vakıfların İktisadi İşletmeleri

15. Neyin, nasıl, ne zaman, nerede üretileceğine karar veren ve bunun için gerekli tüm çalışmalarını yapan kişilere ait tanımlama aşağıdakilerden hangisidir?

- A) Girişimci
- B) Yönetici
- C) Müdür
- D) Organizatör

16. Aşağıdaki açıklamalardan hangisi, Kamu İktisadi Teşebbüslerinin özelliklerinden biri değildir?

- A) KİT'ler tüzel kişiliklerdir.
- B) Zararları genel bütçeden karşılanır.
- C) KİT'lerin kurulması özel girişimcilikle olur.
- D) Yöneticileri büyük oranda devletçe belirlenir.

17. Aşağıdaki açıklamalardan hangisi, holdinglerin ortaya çıkacağı bir sakinca olarak kabul edilebilir?

- A) Tekelci bir güç oluşturması
- B) Sermaye birikimine yol açması
- C) Çok sayıda işletmelerden oluşması
- D) Ana işletme etrafında oluşum sağlanması

18. "Birincil talebi yaratma" açısından yapılacak bir reklam, aşağıdaki reklam çeşitlerinden hangisi ile ilgilidir?

- A) Yapanlar açısından
- B) Hedef kitle açısından
- C) Reklam içeriği açısından
- D) Amaçlar açısından

19. Aşağıdaki açıklamalardan hangisi, satış işleminin gerçekleşmesine yönelik bir gerekliliktir?

- A) Arzın sağlanması
- B) Satıcının fiyata razı olması
- C) Ürün fiyatının tespit edilmesi
- D) Ürün mülkiyetinin devredilmesi

## 2. OTURUM

20. İki ya da daha fazla işletme yöneticisinin, bir ya da birkaç konuda ne yapacaklarını saptayıp, kalıcı bir işbirliği yapmaları, aşağıdakilerden hangisi ile ifade edilmektedir?

- A) RİNG      B) POOL  
C) TRÖST    D) FÜZYON

### (998) MATEMATİK – 1

1.  $A = \{a, b, \{a, b\}, c, d, \{c\}\}$  kümesi veriliyor.

Buna göre aşağıdakilerden hangisi yanlıştır?

- A)  $\{a, b\} \in A$     B)  $\{b, c\} \in A$   
C)  $\{\{c\}\} \subset A$     D)  $s(A) = 6$

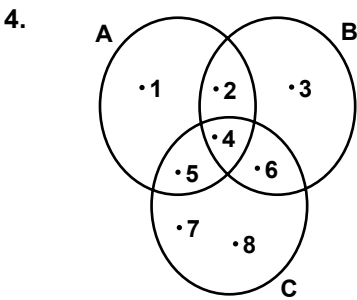
2.  $K = \{1, 2, 3, 4, 5, 6\}$  kümesinin alt kümelerinin sayısı kaçtır?

- A) 32    B) 36    C) 64    D) 72

3. Fransızca ve İspanyolca dillerinden en az birini bilenlerden oluşan 30 kişilik turist kafilesinde 22 kişi Fransızca, 14 kişi İspanyolca bilmektedir.

Bu turist kafilesinde her iki dili bilen kaç kişi vardır?

- A) 12    B) 10    C) 8    D) 6



Yukarıda verilen şemaya göre  $(A \cup B) - C$  kümesi aşağıdakilerden hangisidir?

- A)  $\{1, 2, 3\}$     B)  $\{4, 5, 6\}$   
C)  $\{7, 8\}$     D)  $\{1, 2, 3, 7, 8\}$

5.  $A = \{1, 2, 3\}$ ,  $B = \{1, 2, 3, 4\}$  ve  $C = \{c, d\}$  kümeleri veriliyor.

$(B \times C) - (A \times C)$  kümesi aşağıdakilerden hangisidir?

- A)  $\{ \}$   
B)  $\{(1, c), (2, d), (3, c)\}$   
C)  $\{(4, c), (4, d)\}$   
D)  $\{(c, 1), (c, 3), (d, 2)\}$

6.  $(2a - 1, 6) = (3, b + 1)$  olduğuna göre  $a \cdot b$  kaçtır?

- A) 14    B) 10    C) 8    D) 6

7. Aşağıdakilerden hangisi rasyonel sayı değildir?

- A)  $-\frac{5}{3}$     B) 0    C)  $\sqrt{4}$     D)  $\sqrt{8}$

8.  $|9| - |-3| - |-2|$  işleminin sonucu kaçtır?

- A) 7    B) 5    C) 4    D) 2

9.  $|x + 1| < 3$  eşitsizliğini sağlayan  $x$  tam sayılarının toplamı kaçtır?

- A) -6    B) -5    C) -3    D) -1

10.  $\frac{2^5 + 2^4}{2^3}$  işleminin sonucu kaçtır?

- A) 6    B) 8    C) 12    D) 16

11.  $\frac{x+1}{2} = \frac{x}{4} + 3$  denklemini sağlayan  $x$  değeri kaçtır?

- A) 10    B) 12    C) 15    D) 16

12. Bugünkü yaşlarının oranı  $\frac{2}{5}$  olan iki kardeşten küçüğü 12 yaşındadır.

Buna göre büyük kardeşin 3 yıl önceki yaşı kaçtır?

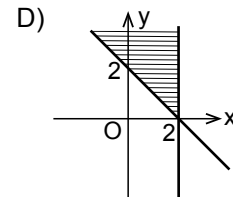
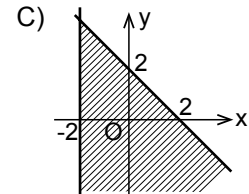
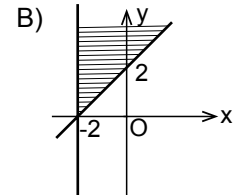
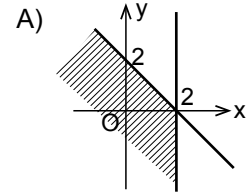
- A) 24    B) 27    C) 33    D) 36

13. Bir kumbarada 50 kuruşluk ve 25 kuruşluk madeni paralardan toplam 30 tane vardır.

Bu kumbarada toplam 12 lira olduğuna göre 50 kuruşluk madeni paralardan kaç tane vardır?

- A) 6    B) 12    C) 18    D) 24

14.  $\begin{cases} x - 2 \leq 0 \\ x + y - 2 \geq 0 \end{cases}$  eşitsizlik sistemini sağlayan noktalar kümesi aşağıdaki koordinat düzlemlerinin hangisinde taranarak gösterilmiştir?



15.  $24^4 \cdot 25^6$  sayısı kaç basamaklıdır?

- A) 11    B) 12    C) 13    D) 14

16.  $\frac{3^{-1} + 2^{-1}}{6^{-1}}$  işleminin sonucu kaçtır?

- A)  $\frac{5}{6}$     B)  $\frac{7}{6}$     C) 5    D) 6

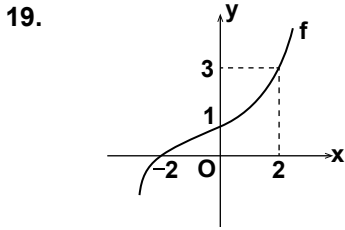
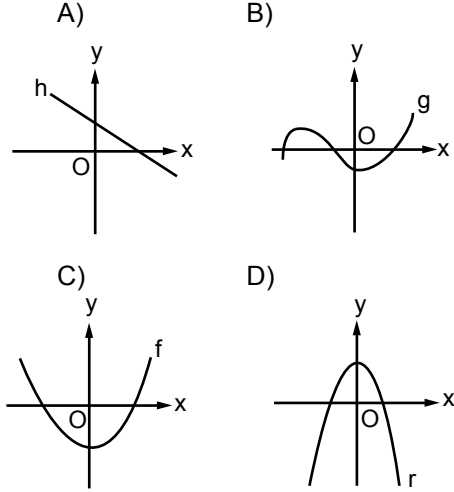
## 2. OTURUM

(999) MATEMATİK – 2

17.  $\sqrt{0,09} + \sqrt{1,21} + \sqrt{2,25}$  işleminin sonucu kaçtır?

- A) 2,9 B) 3,5 C) 3,8 D) 4,1

18. Aşağıda grafikleri verilen fonksiyonlardan hangisi bire birdir?



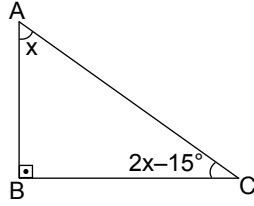
Yukarıdaki grafiğe göre  $f(0) + f^{-1}(0) + f(2)$  kaçtır?

- A) 4 B) 2 C) 0 D) -2

20.  $f: \mathbb{R} \rightarrow \mathbb{R}$ ,  $f(x) = 4x + 7$  ise  $f(x - 2)$  aşağıdakilerden hangisine eşittir?

- A)  $x + 5$  B)  $4x + 5$   
C)  $4x - 1$  D)  $5x - 1$

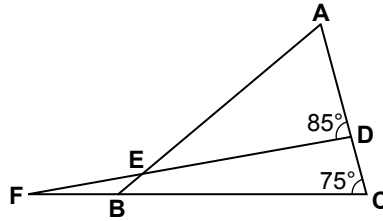
1.



Şekildeki ABC üçgeninde  $m(\widehat{BAC}) = x$ ,  $m(\widehat{BCA}) = 2x - 15^\circ$  ve  $[AB] \perp [BC]$  olduğuna göre  $x$  kaç derecedir?

- A) 25 B) 35 C) 45 D) 55

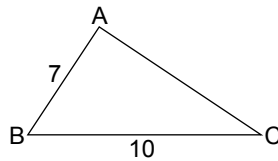
2.



Şekildeki ABC ve DFC üçgenlerinde  $m(\widehat{ACB}) = 75^\circ$  ve  $m(\widehat{ADF}) = 85^\circ$  olduğuna göre  $m(\widehat{CFD})$  kaç derecedir?

- A) 25 B) 20 C) 15 D) 10

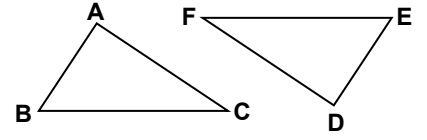
3.



Şekildeki ABC üçgeninde  $|AB| = 7$  cm,  $|BC| = 10$  cm olduğuna göre  $|AC|$ 'nin alabileceği en küçük tam sayı değeri kaç santimetredir?

- A) 2 B) 3 C) 4 D) 5

4.



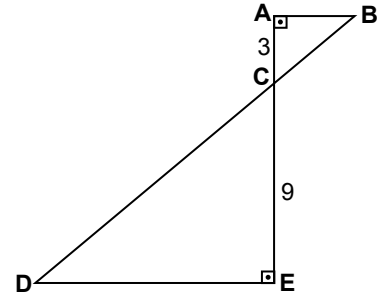
Şekilde  $\widehat{ABC} \cong \widehat{DEF}$ 'tir.

$|AC| = (3x - 2)$  cm ve

$|DF| = (2x + 1)$  cm olduğuna göre  $|DF|$  kaç santimetredir?

- A) 7 B) 6 C) 5 D) 4

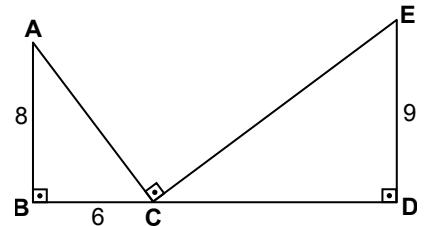
5.



Şekilde  $[AE] \cap [BD] = \{C\}$ ,  $[BA] \perp [AE]$  ve  $[AE] \perp [ED]$ 'tir.  $|AC| = 3$  cm ve  $|CE| = 9$  cm olduğuna göre  $\frac{|AB|}{|DE|}$  kaçtır?

- A)  $\frac{1}{9}$  B)  $\frac{1}{5}$  C)  $\frac{1}{4}$  D)  $\frac{1}{3}$

6.

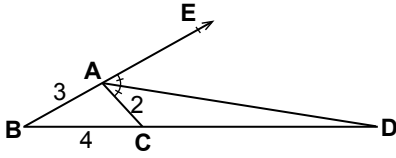


Şekilde  $[AB] \perp [BD]$ ,  $[CD] \perp [DE]$  ve  $[AC] \perp [CE]$ 'tir.  $|AB| = 8$  cm,  $|BC| = 6$  cm ve  $|DE| = 9$  cm olduğuna göre  $|CD|$  kaç santimetredir?

- A) 12 B) 16 C) 18 D) 20

## 2. OTURUM

7.

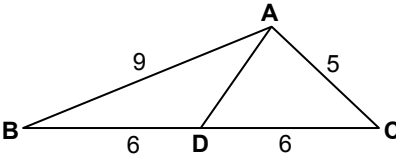


Şekilde B, A, E ve B, C, D noktaları doğrusaldır.

$m(\widehat{EAD}) = m(\widehat{DAC})$  ve ABC üçgeninde  $|AB| = 3$  cm,  $|AC| = 2$  cm,  $|BC| = 4$  cm olduğuna göre  $|CD|$  kaç santimetredir?

- A) 5 B) 7 C) 8 D) 10

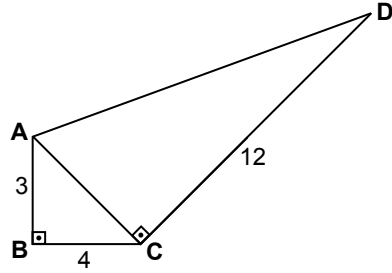
8.



Şekildeki ABC üçgeninde  $|AB| = 9$  cm,  $|AC| = 5$  cm ve  $|BD| = |DC| = 6$  cm olduğuna göre  $|AD|$  kaç santimetredir?

- A)  $\sqrt{11}$  B)  $\sqrt{17}$   
C)  $2\sqrt{17}$  D)  $\sqrt{29}$

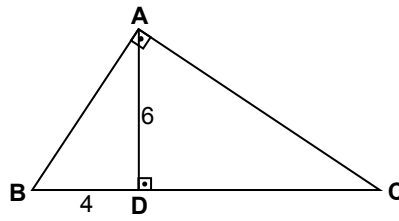
9.



Şekilde  $[AB] \perp [BC]$  ve  $[AC] \perp [CD]$ 'tir.  $|AB| = 3$  cm,  $|BC| = 4$  cm ve  $|CD| = 12$  cm olduğuna göre  $|AD|$  kaç santimetredir?

- A) 13 B) 12 C) 11 D) 10

10.



Şekildeki ABC üçgeninde,  $[AB] \perp [AC]$  ve  $[AD] \perp [BC]$ 'tir.  $|AD| = 6$  cm ve  $|BD| = 4$  cm olduğuna göre  $|AC|$  kaç santimetredir?

- A)  $3\sqrt{13}$  B) 9  
C)  $9\sqrt{2}$  D)  $13\sqrt{3}$

11.  $\sin 170^\circ$ ,  $\cos 190^\circ$ ,  $\tan 230^\circ$  ve  $\cot 300^\circ$  değerlerinin işaretleri sırasıyla aşağıdakilerden hangisinde verilmiştir?

- A) -, -, +, - B) -, +, -, +  
C) +, -, +, - D) -, -, +, +

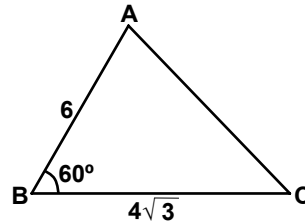
12.  $0^\circ < \alpha < 90^\circ$  ve  $\sin \alpha = \frac{5}{13}$  olduğuna göre  $\cot \alpha$  değeri kaçtır?

- A)  $\frac{12}{5}$  B)  $\frac{14}{13}$  C)  $\frac{12}{13}$  D)  $\frac{5}{14}$

13. Kenarlarının uzunlukları  $|AB| = 5$  cm,  $|BC| = 7$  cm ve  $|AC| = 8$  cm olan ABC üçgeninin alanı kaç santimetrekaredir?

- A) 14 B)  $10\sqrt{3}$   
C) 18 D)  $15\sqrt{2}$

14.



Şekildeki ABC üçgeninde  $m(\widehat{ABC}) = 60^\circ$ ,  $|AB| = 6$  cm ve  $|BC| = 4\sqrt{3}$  cm olduğuna göre  $A(\widehat{ABC})$  kaç santimetrekaredir?

- A)  $6\sqrt{3}$  B)  $9\sqrt{3}$   
C) 12 D) 18

15. A, B, D, E noktaları aynı düzlemde bulunan farklı noktardır. Buna göre  $\vec{AB} + \vec{BD} + \vec{DE}$  aşağıdaki vektörlerden hangisine eşittir?

- A)  $\vec{AD}$  B)  $\vec{BE}$   
C)  $\vec{AE}$  D)  $\vec{ED}$

16. A(2 - x) ve B(5) noktaları veriliyor.  $|\vec{AB}| = 10$  birim olduğuna göre x aşağıdakilerden hangisi olabilir?

- A) -7 B) -3 C) 3 D) 7

17. 6 kişilik bir grubun yaşlarının ortalaması 28'dir. Bu gruba kaç yaşında bir kişi katılırsa grubun yaş ortalaması 26 olur?

- A) 14 B) 18 C) 20 D) 22

18. 3, 2, 2, 4, 4, 3, 2, 1, 3, 2 veri grubunun tepe değeri kaçtır?

- A) 1 B) 2 C) 3 D) 4

19. Bir kutuda 3 bozuk, 7 sağlam ampul vardır. Kutudan rastgele çekilen bir ampulün bozuk olma olasılığı nedir?

- A)  $\frac{7}{10}$  B)  $\frac{4}{7}$  C)  $\frac{3}{7}$  D)  $\frac{3}{10}$

20. Hilesiz bir zar atılması deneyinde üst yüze gelen sayının 2 ile bölünebilen bir sayı olma olasılığı nedir?

- A)  $\frac{1}{6}$  B)  $\frac{1}{4}$  C)  $\frac{1}{3}$  D)  $\frac{1}{2}$

TEST BİTTİ.  
CEVAPLARINIZI KONTROL EDİNİZ.



## CEVAP KÂĞIDI VE SORU KİTAPÇIĞI İLE İLGİLİ AÇIKLAMALAR

1. Cevap kâğıdınızdaki bilgilerin doğruluğunu kontrol ediniz ve cevap kâğıdınızı mürekkepli kalemle imzalayınız.
2. Cevap kâğıdı üzerinde kodlamalarınızı siyah kurşun kalemle yapınız.
3. Değiştirmek istediğiniz bir cevabı, yumuşak silgiyle cevap kâğıdını örselemeden temizce siliniz ve yeni cevabınızı kodlayınız.
4. Soru kitapçığının sayfalarını görevlilerin uyarıları doğrultusunda kontrol ediniz, baskı hatası var ise değiştirilmesini sağlayınız.
5. Soruların çözümü için size ayrıca boş kâğıt verilmeyecektir. Soru kitapçığının içindeki boş alanları soru çözümleri için kullanabilirsiniz.
6. Her sorunun dört seçeneğinden sadece biri doğrudur. Doğru seçeneği, cevap kâğıdınızın ilgili sütununa soru numarasını dikkate alarak yuvarlağın dışına taşırmadan kodlayınız. Soru kitapçığı üzerinde yapılan cevaplandırmalar dikkate alınmayacaktır.
7. Cevaplamaya istediğiniz dersin sorusundan başlayabilirsiniz. Cevabını bilmediğiniz sorular üzerinde fazla zaman kaybetmeden diğer sorulara geçiniz. Zamanınız kalırsa bu sorulara daha sonra dönebilirsiniz.
8. Yanlış cevaplarınız dikkate alınmadan sadece doğru cevaplarınız üzerinden puanlama yapılacaktır.
9. Soruları ve sorulara verdiğiniz cevapları, yanınızda götürmek amacıyla kaydetmeyiniz; hiçbir şekilde dışarı çıkarmayınız.
10. Sınav bitiminde soru kitapçığı ve cevap kâğıdını salon görevlilerine teslim ediniz.

## SALON GÖREVLİLERİNCE SINAV BAŞLAMADAN ÖNCE ADAYLARA YAPILACAK SON UYARILAR

- Soracağınız bir şey varsa şimdi sorunuz, sınav başladıktan sonra sorularınıza cevap verilmeyecektir.
- Başlama zilini bekleyiniz.

*Hepinize başarılar dileriz.*

(Salon başkanı başlama ve bitiş saatini tahtaya yazacaktır.)

Bu kitapçığın her hakkı saklıdır. Hangi amaçla olursa olsun, kitapçığın tamamının veya bir kısmının Millî Eğitim Bakanlığı Ölçme, Değerlendirme ve Sınav Hizmetleri Genel Müdürlüğünün yazılı izni olmadan kopya edilmesi, fotoğraflarının çekilmesi, bilgisayar ortamına alınması, herhangi bir yolla çoğaltılması, yayımlanması veya başka bir amaçla kullanılması yasaktır. Bu yasağa uymayanlar, doğabilecek cezai sorumluluğu ve kitapçığın hazırlanmasındaki mali külfeti peşinen kabullenmiş sayılır.

11 ARALIK 2016 TARİHİNDE YAPILAN AÇIKÖĞRETİM LİSESİ / MESLEKİ AÇIKÖĞRETİM LİSESİ  
2015-2016 ÖĞRETİM YILI EK SINAVI 2. OTURUM T KİTAPÇIĞI CEVAP ANAHTARI

DİN KÜL. AHL. BİL. – 1

1. C
2. D
3. B
4. A
5. A
6. C
7. D
8. B
9. C
10. A
11. C
12. D
13. B
14. A
15. C
16. B
17. D
18. B
19. D
20. D

DİN KÜL. AHL. BİL. – 3

1. C
2. B
3. A
4. C
5. B
6. B
7. C
8. A
9. D
10. D
11. B
12. A
13. C
14. C
15. D
16. B
17. A
18. D
19. A
20. D

SEÇMELİ FELSEFE – 1

1. A
2. D
3. D
4. C
5. B
6. C
7. B
8. A
9. B
10. D
11. B
12. C
13. A
14. C
15. D
16. B
17. D
18. B
19. D
20. A

COĞRAFYA – 1

1. D
2. A
3. C
4. B
5. D
6. C
7. B
8. A
9. C
10. A
11. D
12. C
13. D
14. B
15. A
16. A
17. B
18. C
19. D
20. B

DİN KÜL. AHL. BİL. – 2

1. B
2. B
3. A
4. C
5. B
6. A
7. C
8. C
9. A
10. C
11. B
12. D
13. D
14. C
15. D
16. D
17. B
18. B
19. A
20. D

DİN KÜL. AHL. BİL. – 4

1. B
2. D
3. C
4. D
5. A
6. B
7. C
8. C
9. A
10. D
11. A
12. D
13. B
14. C
15. B
16. A
17. B
18. D
19. A
20. C

SEÇMELİ FELSEFE – 2

1. A
2. D
3. A
4. B
5. D
6. C
7. A
8. D
9. C
10. B
11. C
12. A
13. B
14. D
15. D
16. A
17. C
18. B
19. A
20. B

COĞRAFYA – 2

1. C
2. B
3. D
4. C
5. D
6. C
7. A
8. B
9. D
10. C
11. D
12. B
13. A
14. A
15. B
16. A
17. C
18. B
19. A
20. D

11 ARALIK 2016 TARİHİNDE YAPILAN AÇIKÖĞRETİM LİSESİ / MESLEKİ AÇIKÖĞRETİM LİSESİ  
2015-2016 ÖĞRETİM YILI EK SINAVI 2. OTURUM T KİTAPÇIĞI CEVAP ANAHTARI

İNGİLİZCE – 1

1. B
2. C
3. D
4. A
5. C
6. B
7. D
8. B
9. A
10. B
11. A
12. D
13. C
14. B
15. D
16. A
17. C
18. B
19. A
20. D

FRANSIZCA – 1

1. C
2. D
3. A
4. B
5. A
6. D
7. B
8. D
9. D
10. B
11. A
12. B
13. A
14. C
15. C
16. B
17. C
18. B
19. A
20. D

ALMANCA – 2

1. A
2. B
3. D
4. C
5. B
6. A
7. D
8. B
9. A
10. D
11. B
12. C
13. A
14. C
15. D
16. A
17. C
18. B
19. C
20. D

PSIKOLOJİ – 2

1. C
2. D
3. B
4. C
5. A
6. D
7. A
8. C
9. A
10. B
11. B
12. C
13. D
14. C
15. A
16. D
17. A
18. B
19. D
20. C

ALMANCA – 1

1. B
2. A
3. C
4. A
5. D
6. B
7. A
8. D
9. C
10. B
11. A
12. C
13. D
14. B
15. C
16. C
17. A
18. D
19. D
20. B

İNGİLİZCE – 2

1. C
2. B
3. D
4. C
5. D
6. B
7. A
8. C
9. A
10. B
11. A
12. C
13. B
14. D
15. A
16. D
17. C
18. A
19. B
20. C

FRANSIZCA – 2

1. C
2. A
3. B
4. D
5. D
6. B
7. A
8. C
9. A
10. C
11. D
12. C
13. D
14. C
15. A
16. B
17. C
18. B
19. D
20. A

SOSYOLOJİ – 1

1. D
2. C
3. C
4. A
5. B
6. D
7. A
8. C
9. A
10. B
11. D
12. A
13. B
14. C
15. D
16. B
17. A
18. B
19. C
20. A

11 ARALIK 2016 TARİHİNDE YAPILAN AÇIKÖĞRETİM LİSESİ / MESLEKİ AÇIKÖĞRETİM LİSESİ  
2015-2016 ÖĞRETİM YILI EK SINAVI 2. OTURUM T KİTAPÇIĞI CEVAP ANAHTARI

DİL VE ANLATIM – 1

1. A
2. B
3. B
4. C
5. B
6. D
7. D
8. C
9. C
10. B
11. C
12. A
13. D
14. B
15. D
16. A
17. D
18. A
19. A
20. B

DİL VE ANLATIM – 8

1. B
2. D
3. C
4. A
5. C
6. B
7. A
8. C
9. C
10. D
11. D
12. B
13. C
14. B
15. D
16. A
17. B
18. C
19. D
20. A

TÜRK EDEBİYATI – 2

1. D
2. C
3. C
4. A
5. D
6. C
7. A
8. C
9. A
10. D
11. A
12. A
13. B
14. B
15. D
16. D
17. B
18. C
19. B
20. B

FİZİK – 1

1. B
2. D
3. A
4. C
5. B
6. C
7. B
8. C
9. B
10. B
11. D
12. B
13. A
14. B
15. C
16. B
17. A
18. D
19. A
20. A

DİL VE ANLATIM – 2

1. B
2. C
3. D
4. B
5. D
6. C
7. A
8. B
9. A
10. D
11. C
12. D
13. B
14. D
15. B
16. A
17. A
18. C
19. D
20. B

TÜRK EDEBİYATI – 1

1. C
2. D
3. D
4. B
5. B
6. A
7. B
8. B
9. A
10. C
11. B
12. A
13. A
14. D
15. D
16. B
17. C
18. D
19. A
20. C

TÜRK EDEBİYATI – 8

1. B
2. D
3. A
4. D
5. B
6. A
7. C
8. C
9. B
10. A
11. C
12. B
13. A
14. C
15. D
16. C
17. D
18. D
19. B
20. B

FİZİK – 2

1. A
2. B
3. A
4. D
5. C
6. A
7. C
8. D
9. A
10. D
11. B
12. D
13. B
14. A
15. A
16. A
17. D
18. D
19. B
20. C

11 ARALIK 2016 TARİHİNDE YAPILAN AÇIKÖĞRETİM LİSESİ / MESLEKİ AÇIKÖĞRETİM LİSESİ  
2015-2016 ÖĞRETİM YILI EK SINAVI 2. OTURUM T KİTAPÇIĞI CEVAP ANAHTARI

FİZİK – 3

1. A
2. D
3. C
4. A
5. C
6. B
7. C
8. B
9. D
10. B
11. D
12. C
13. C
14. B
15. B
16. D
17. B
18. C
19. D
20. A

KİMYA – 3

1. B
2. D
3. C
4. A
5. D
6. B
7. A
8. C
9. A
10. B
11. D
12. C
13. B
14. C
15. C
16. D
17. A
18. A
19. B
20. B

BİYOLOJİ – 3

1. D
2. A
3. C
4. B
5. D
6. A
7. D
8. C
9. A
10. C
11. D
12. B
13. D
14. A
15. A
16. A
17. C
18. D
19. B
20. D

Ç. TÜRK ve DÜNYA TAR.– 1

1. B
2. C
3. A
4. D
5. A
6. B
7. D
8. D
9. A
10. C
11. A
12. C
13. B
14. D
15. C
16. B
17. A
18. A
19. C
20. B

FİZİK – 4

1. C
2. A
3. D
4. C
5. C
6. B
7. A
8. D
9. B
10. C
11. C
12. A
13. B
14. C
15. D
16. A
17. B
18. A
19. C
20. D

KİMYA – 4

1. B
2. A
3. C
4. D
5. C
6. D
7. B
8. D
9. A
10. D
11. A
12. B
13. A
14. D
15. C
16. A
17. D
18. B
19. A
20. C

BİYOLOJİ – 4

1. A
2. C
3. B
4. A
5. C
6. B
7. B
8. C
9. A
10. B
11. C
12. C
13. D
14. C
15. A
16. B
17. D
18. A
19. A
20. C

DEMOKRASİ ve İNS. HAK. – 1

1. D
2. A
3. C
4. B
5. C
6. D
7. A
8. B
9. C
10. D
11. A
12. B
13. D
14. C
15. D
16. A
17. D
18. D
19. B
20. C

11 ARALIK 2016 TARİHİNDE YAPILAN AÇIKÖĞRETİM LİSESİ / MESLEKİ AÇIKÖĞRETİM LİSESİ  
2015-2016 ÖĞRETİM YILI EK SINAVI 2. OTURUM T KİTAPÇIĞI CEVAP ANAHTARI

EKONOMİ – 1

1. D
2. B
3. D
4. C
5. A
6. A
7. D
8. C
9. B
10. D
11. C
12. B
13. C
14. A
15. B
16. A
17. C
18. D
19. D
20. B

İŞLETME –1

1. B
2. B
3. B
4. A
5. C
6. C
7. D
8. B
9. D
10. D
11. D
12. A
13. C
14. D
15. B
16. B
17. D
18. C
19. A
20. B

MANTIK – 2

1. C
2. A
3. C
4. D
5. D
6. A
7. B
8. B
9. C
10. A
11. B
12. A
13. D
14. C
15. A
16. D
17. C
18. B
19. A
20. D

SANAT TARİHİ – 2

1. C
2. B
3. D
4. A
5. C
6. B
7. B
8. D
9. C
10. C
11. B
12. A
13. B
14. D
15. A
16. A
17. B
18. C
19. A
20. D

EKONOMİ – 2

1. A
2. D
3. B
4. C
5. B
6. C
7. D
8. D
9. B
10. B
11. D
12. D
13. D
14. B
15. C
16. A
17. C
18. A
19. D
20. A

İŞLETME – 2

1. A
2. D
3. C
4. A
5. A
6. D
7. D
8. B
9. A
10. C
11. A
12. B
13. B
14. C
15. D
16. C
17. A
18. B
19. B
20. D

SANAT TARİHİ – 1

1. A
2. C
3. B
4. D
5. A
6. B
7. B
8. A
9. B
10. A
11. C
12. A
13. D
14. D
15. B
16. B
17. A
18. D
19. B
20. C

İNGİLİZCE – 8

1. D
2. C
3. B
4. A
5. D
6. B
7. B
8. C
9. D
10. C
11. C
12. B
13. A
14. C
15. B
16. D
17. A
18. D
19. C
20. A

11 ARALIK 2016 TARİHİNDE YAPILAN AÇIKÖĞRETİM LİSESİ / MESLEKİ AÇIKÖĞRETİM LİSESİ  
2015-2016 ÖĞRETİM YILI EK SINAVI 2. OTURUM T KİTAPÇIĞI CEVAP ANAHTARI

ALMANCA – 8

1. A
2. B
3. C
4. B
5. D
6. C
7. A
8. A
9. B
10. D
11. B
12. C
13. A
14. D
15. C
16. B
17. D
18. C
19. D
20. A

SEÇMELİ TARİH – 3

1. D
2. A
3. B
4. B
5. D
6. A
7. C
8. D
9. B
10. A
11. A
12. C
13. B
14. D
15. B
16. D
17. A
18. C
19. B
20. A

SEÇMELİ COĞRAFYA – 3

1. A
2. D
3. C
4. B
5. D
6. C
7. C
8. A
9. D
10. C
11. B
12. C
13. A
14. B
15. C
16. B
17. A
18. D
19. B
20. A

FIKİH – 1

1. D
2. B
3. D
4. C
5. B
6. C
7. B
8. A
9. A
10. B
11. A
12. B
13. C
14. B
15. A
16. C
17. A
18. D
19. C
20. D

FRANSIZCA – 8

1. C
2. D
3. A
4. B
5. D
6. A
7. B
8. C
9. A
10. B
11. C
12. B
13. A
14. A
15. C
16. D
17. D
18. A
19. C
20. B

SEÇMELİ TARİH – 4

1. A
2. D
3. B
4. C
5. A
6. D
7. B
8. A
9. B
10. D
11. C
12. A
13. B
14. D
15. D
16. C
17. A
18. B
19. D
20. C

SEÇMELİ COĞRAFYA – 4

1. B
2. C
3. B
4. C
5. D
6. D
7. A
8. A
9. B
10. C
11. B
12. D
13. D
14. C
15. A
16. C
17. C
18. A
19. A
20. D

FIKİH – 2

1. D
2. A
3. D
4. C
5. B
6. C
7. B
8. B
9. C
10. D
11. A
12. D
13. B
14. A
15. B
16. D
17. C
18. D
19. A
20. C

02 EKİM 2016 TARİHİNDE YAPILAN AÇIKÖĞRETİM LİSESİ / MESLEKİ AÇIKÖĞRETİM LİSESİ  
2015-2016 ÖĞRETİM YILI EK SINAVI 2. OTURUM T KİTAPÇIĞI CEVAP ANAHTARI

HZ. MUHAMMED'İN HAY. – 1

1. A
2. C
3. D
4. C
5. B
6. C
7. A
8. C
9. A
10. D
11. B
12. D
13. D
14. C
15. A
16. D
17. C
18. B
19. A
20. B

SEÇMELİ DİL VE ANLATIM – 3

1. A
2. B
3. C
4. C
5. D
6. D
7. C
8. B
9. D
10. C
11. A
12. C
13. B
14. B
15. D
16. D
17. A
18. A
19. C
20. D

İSLAM TARİHİ – 1

1. A
2. D
3. B
4. C
5. B
6. D
7. C
8. D
9. C
10. B
11. A
12. A
13. D
14. C
15. A
16. D
17. C
18. B
19. A
20. C

SİYER – 1

1. B
2. D
3. C
4. B
5. B
6. A
7. C
8. D
9. A
10. C
11. B
12. A
13. D
14. B
15. A
16. C
17. B
18. A
19. C
20. D

HZ. MUHAMMED'İN HAY. – 2

1. B
2. A
3. B
4. A
5. D
6. C
7. D
8. C
9. C
10. B
11. C
12. D
13. B
14. C
15. A
16. C
17. A
18. D
19. B
20. A

SEÇMELİ DİL VE ANLATIM – 4

1. C
2. D
3. B
4. D
5. A
6. C
7. C
8. A
9. A
10. D
11. B
12. C
13. C
14. D
15. B
16. A
17. A
18. A
19. B
20. D

İSLAM TARİHİ – 2

1. A
2. A
3. D
4. B
5. B
6. C
7. B
8. A
9. D
10. D
11. C
12. D
13. A
14. B
15. C
16. A
17. C
18. D
19. A
20. B

SİYER – 2

1. B
2. A
3. C
4. A
5. C
6. B
7. D
8. C
9. A
10. B
11. B
12. C
13. D
14. A
15. D
16. B
17. C
18. A
19. C
20. D



11 ARALIK 2016 TARİHİNDE YAPILAN AÇIKÖĞRETİM LİSESİ / MESLEKİ AÇIKÖĞRETİM LİSESİ  
2015-2016 ÖĞRETİM YILI EK SINAVI 2. OTURUM T KİTAPÇIĞI CEVAP ANAHTARI

GİRİŞİMCİLİK – 1

1. A
2. D
3. B
4. A
5. C
6. A
7. D
8. B
9. C
10. B
11. C
12. D
13. B
14. A
15. D
16. A
17. A
18. A
19. C
20. B

MATEMATİK – 1

1. B
2. C
3. D
4. A
5. C
6. B
7. D
8. C
9. B
10. A
11. A
12. B
13. C
14. D
15. D
16. C
17. A
18. A
19. B
20. C

GİRİŞİMCİLİK – 2

1. A
2. B
3. D
4. B
5. D
6. A
7. C
8. B
9. A
10. D
11. C
12. B
13. B
14. D
15. A
16. C
17. A
18. D
19. C
20. A

MATEMATİK – 2

1. B
2. D
3. C
4. A
5. D
6. A
7. C
8. B
9. A
10. A
11. C
12. A
13. B
14. D
15. C
16. D
17. A
18. B
19. D
20. D